



Test Date : 03 Sep 2022

Test Slot : Slot 1

Subject : PGQP30-Museology

Sl. No.1

QBID:1554931

Choose the correct form of verb to fill in the blank.

Will the union leader _____ ?

- (1) arrested
- (2) be arrested
- (3) was arrested
- (4) were arrested

स्वर युक्त व्यंजन को मूल व्यंजन बनाने के लिए किस चिह्न का प्रयोग किया जाता है ?

- (1) हल
- (2) काकपद
- (3) अवग्रह
- (4) रेफ

1[Option ID=8201]

2[Option ID=8202]

3[Option ID=8203]

4[Option ID=8204]

Sl. No.2

QBID:1554932

Choose the appropriate preposition to complete the sentence :

The young child carried the heavy bucket _____ the stairs.

- (1) by
- (2) from
- (3) above
- (4) besides

निम्नलिखित में से कौन सर्वनाम का भेद नहीं है ?

- (1) पुरुषवाचक
- (2) निजवाचक
- (3) गुणवाचक
- (4) प्रश्नवाचक

1[Option ID=8245]

2[Option ID=8246]

3[Option ID=8247]

4[Option ID=8248]

Sl. No.3

QBID:1554933

Pick out the correctly spelt word.

- (1) accommodation
- (2) acommodation
- (3) accomodation
- (4) acmodation

निम्नलिखित में से कौन हिन्दी प्रत्यय है ?

- (1) निस्
- (2) निद्
- (3) अक्कड़
- (4) ला

1[Option ID=8273]

2[Option ID=8274]

3[Option ID=8275]

4[Option ID=8276]

Sl. No.4

QBID:1554934

Identify the correct form of indirect speech of the following sentence.

Arpit says, "She is an intelligent girl".

- (1) Arpit says that she is an intelligent girl.
- (2) Arpit said that she is an intelligent girl.
- (3) Arpit said that she was an intelligent girl.
- (4) Arpit asked him if she is an intelligent girl.

नीचे दो कथन दिए गए हैं: एक अभिकथन (Assertion A) के रूप में लिखित हैं तो दूसरा उसके कारण (Reason R) के रूप में

अभिकथन A : "वर्णों के उच्चारण की रीति को प्रयत्न कहते हैं।"

कारण R : "वागिन्द्रियों की क्रिया के आधार पर ये प्रयत्न दो तरह के होते हैं - आभ्यन्तर प्रयत्न और बाह्य प्रयत्न"

उपरोक्त कथन के आलोक में, नीचे दिए गए विकल्पों में से सबसे उपयुक्त उत्तर का चयन कीजिए:

- (1) A और R दोनों सही है और R, A की सही व्याख्या है
- (2) A और R दोनों सही है, लेकिन R, A की सही व्याख्या नहीं है
- (3) A सही है लेकिन R सही नहीं है
- (4) A सही नहीं है लेकिन R सही है

1[Option ID=8277]

2[Option ID=8278]

3[Option ID=8279]

4[Option ID=8280]

Sl. No.5

QBID:1554935

Rearrange the following parts of a sentence labeled as PQRS to make a meaningful sentence

P Your hope for

Q if money is

R never have it

S independence you will

- (1) QPSR
- (2) RSPQ
- (3) PQRS
- (4) RPSQ

नीचे दो कथन दिए गए हैं: एक अभिकथन (Assertion A) के रूप में लिखित हैं तो दूसरा उसके कारण (Reason R) के रूप में

अभिकथन A : "एक या एक से अधिक अक्षरों से बनी हुई स्वतंत्र, किन्तु सार्थक ध्वनि को शब्द कहते हैं।"

कारण R : कई बार ध्वनियों के निरर्थक समूह को भी शब्द कहा जाता है ।

उपरोक्त कथन के आलोक में, नीचे दिए गए विकल्पों में से सबसे उपयुक्त उत्तर का चयन कीजिए:

- (1) A और R दोनों सही हैं और R, A की सही व्याख्या है
- (2) A और R दोनों सही हैं, लेकिन R, A की सही व्याख्या नहीं है
- (3) A सही है लेकिन R सही नहीं है
- (4) A सही नहीं है लेकिन R सही है

1[Option ID=8281]

2[Option ID=8282]

3[Option ID=8283]

4[Option ID=8284]

Sl. No.6

QBID:1554936

Pick out the antonym of 'spoil'.

- (1) dignity
- (2) embellish
- (3) abolish
- (4) abandon

शब्द और पद के बारे में कौन-से कथन सही हैं ?

- A. वाक्य में प्रयुक्त होने से पहले शब्द स्वतंत्र होते हैं ।
- B. वाक्य में प्रयुक्त होने के बाद भी शब्द स्वतंत्र होते हैं ।
- C. वाक्य में प्रयुक्त होने के बाद शब्द वाक्य के लिंग, वचन, कारक और क्रिया के नियमों से अनुशासित हो जाता है ।
- D. व्याकरण के नियमों में बँधने से शब्द पद नहीं बन जाते हैं ।
- E. शब्द और पद मूलतः एक ही हैं ।

नीचे दिये गए विकल्पों में से सही उत्तर का चयन कीजिए:

- (1) A और E
- (2) A और D
- (3) A और C
- (4) C और D

1[Option ID=8285]

2[Option ID=8286]

3[Option ID=8287]

4[Option ID=8288]

SI. No.7

QBID:1554937

Pick out the meaning of underlined idiom in the following sentence.

The judge called for an explanation of his misconduct.

- (1) demanded
- (2) desired
- (3) discussed
- (4) repeated

सूची I के साथ सूची II का मिलान कीजिए:

सूची I	सूची II
A. जो समाधि में लीन हो	I. निः संतान
B. जिसका कोई शत्रु न हो	II. समाधिस्थ
C. जिसका कोई घर न हो	III. अज्ञातशत्रु
D. जिसके कोई संतान न हो	IV. अनिकेत

नीचे दिए गए विकल्पों में से सही उत्तर का चयन कीजिए:

- (1) A-II, B-III, C-IV, D-I
- (2) A-I, B-II, C-III, D-IV
- (3) A-III, B-IV, C-I, D-II
- (4) A-IV, B-I, C-II, D-III

1[Option ID=8289]

2[Option ID=8290]

3[Option ID=8291]

4[Option ID=8292]

Sl. No.8

QBID:1554938

Choose the correct passive voice form of the following sentence :

You can take it away.

- (1) It can be taken away.
- (2) You have taken it away.
- (3) It can't be taken away
- (4) You have the choice to take it away.

नीचे दो कथन दिए गए हैं:

कथन-I : 'दम लेना' मुहावरे का अभिधार्थ है - साँस लेना ।

कथन-II : लेकिन व्यंजना से इसका अर्थ है - विश्राम करना ।

उपरोक्त कथन के आलोक में, नीचे दिए गए विकल्पों में से सही उत्तर का चयन कीजिए:

- (1) कथन-I और कथन-II दोनों सत्य है
- (2) कथन-I और कथन-II दोनों असत्य है
- (3) कथन-I सत्य हैं, लेकिन कथन-II असत्य है
- (4) कथन-I असत्य हैं, लेकिन कथन-II सत्य है

1[Option ID=8293]

2[Option ID=8294]

3[Option ID=8295]

4[Option ID=8296]

Sl. No.9

QBID:1554939

Pick out the synonym of the following word.

Languid

- (1) lazy
- (2) smart
- (3) genius
- (4) intelligent

निम्नलिखित में कौन कमल के समानार्थी नहीं हैं ?

- A. पंकज
- B. पादप
- C. पद्म
- D. शतदल
- E. कमलगट्टा

- (1) केवल A, B और C
- (2) केवल B, C और D
- (3) केवल A, C और D
- (4) केवल C, D और E

1[Option ID=8297]

2[Option ID=8298]

3[Option ID=8299]

4[Option ID=8300]

Sl. No.10

QBID:15549310

Choose the correct sentence.

- (1) They never go on holiday, do they ?
- (2) They never go on holiday, don't they ?
- (3) They never go on holiday, haven't they ?
- (4) They never go on holiday, did they ?

निम्नलिखित वाक्यांशों को उचित क्रमानुसार व्यवस्थित कीजिए:

- A. विद्वानों का अनुमान है कि
- B. एक हजार वर्ष से
- C. एक सी नहीं रह सकती
- D. अधिक समय तक
- E. कोई भी प्रचलित भाषा

नीचे दिये गए विकल्पों में से सही उत्तर का चयन कीजिए:

- (1) A B C D E
- (2) A E B D C
- (3) E B D C A
- (4) B D C A E

1[Option ID=8205]

2[Option ID=8206]

3[Option ID=8207]

4[Option ID=8208]

Sl. No.11

QBID:15549311

What is a Green Chip company ?

- (1) That focuses on eco-friendliness.
- (2) That focuses on forest products.
- (3) That has no loan pending.
- (4) That has not launched IPO yet.

'ग्रीन चिप' कम्पनी क्या होती है ?

- (1) जो पर्यावरण-मित्रता पर केंद्रित रहती है ।

- (2) जो वन-उत्पादों पर केन्द्रित रहती है।
- (3) जिस पर कोई ऋण बकाया नहीं है।
- (4) जिसने अभी आइ.पी.ओ. की घोषणा नहीं की है।

- 1[Option ID=8209]
 2[Option ID=8210]
 3[Option ID=8211]
 4[Option ID=8212]

Sl. No.12

QBID:15549312

When Waquar Younis, the Pakistani fast bowler made his debut in Test Cricket at Karachi, there was a batsman from the visiting side, who also made his debut. Who was he ?

- (1) Rahul Dravid
- (2) Saurabh Ganguli
- (3) V V S Laxman
- (4) Sachin Tendulkar

जब पाकिस्तानी तेज गेंदबाज, वकार युनूस को कराची में टेस्ट क्रिकेट खेलना शुरू किया था, तब अतिथि पक्ष की ओर से एक बल्लेबाज ने भी अपने टेस्ट-जीवन की शुरुआत की थी। वो कौन था ?

- (1) राहुल द्रविड़
- (2) सौरभ गांगुली
- (3) वी.वी.एस. लक्ष्मण
- (4) सचिन तेंदुलकर

- 1[Option ID=8213]
 2[Option ID=8214]
 3[Option ID=8215]
 4[Option ID=8216]

Sl. No.13

QBID:15549313

Match List I with List II

List I (Makeup colors used in Kathakali)		List II Used for/by	
A.	Green	I.	Evil characters
B.	Red	II.	Noble and Sages
C.	Black	III.	Divine Beings
D.	White Beard	IV.	Forest dwellers / hunter

Choose the correct answer from the options given below :

- (1) A-II, B-I, C-IV, D-III
- (2) A-IV, B-III, C-II, D-I

(3) A-I, B-II, C-III, D-IV

(4) A-III, B-IV, C-I, D-II

सूची I के साथ सूची II का मिलान कीजिए:

सूची I (कथकली में शृंगार हेतु प्रयुक्त रंग)		सूची II (किसके द्वारा प्रयुक्त)	
A.	हरा	I.	बुरे चरित्र
B.	लाल	II.	सम्भ्रान्त और साधु
C.	काला	III.	दैवीय जीव
D.	सफेद दाढ़ी	IV.	वनवासी / शिकारी

नीचे दिए गए विकल्पों में से सही उत्तर का चयन कीजिए:

(1) A-II, B-I, C-IV, D-III

(2) A-IV, B-III, C-II, D-I

(3) A-I, B-II, C-III, D-IV

(4) A-III, B-IV, C-I, D-II

1[Option ID=8217]

2[Option ID=8218]

3[Option ID=8219]

4[Option ID=8220]

Sl. No.14

QBID:15549314

Je suis Charlie (I am Charlie) was a slogan spread around after terrorist attacked on :

(1) Charlie Charlie - Children's magazine

(2) Charlie - the footballer

(3) Charlie - the Restaurant

(4) Charlie Hebdo

किस चीज पर आतंकवादी हमले के बाद 'जे स्पूइ चार्ली' (मैं चार्ली हूँ) का नारा चारों ओर फैलाया गया था:

(1) चार्ली चार्ली - बच्चों की पत्रिका

(2) चार्ली - फुटबाल खिलाड़ी

(3) चार्ली - रेस्तरां

(4) चार्ली ते तेब्दों

1[Option ID=8221]

2[Option ID=8222]

3[Option ID=8223]

4[Option ID=8224]

Sl. No.15

QBID:15549315

Who opened the *National Library* in Kolkata in 1953 ?

- (1) Jawaharlal Nehru
- (2) Sardar Patel
- (3) Maulana Abul Kalam Azad
- (4) Dr. B. C. Roy

1953 में कोलकाता में नेशनल लाइब्रेरी (राष्ट्रीय प्रस्तकालय) किसने खोला ?

- (1) जवाहरलाल नेहरु
- (2) सरदार पटेल
- (3) मौलाना अबुल कलाम आज़ाद
- (4) डा. बी. सी. राय

1[Option ID=8225]

2[Option ID=8226]

3[Option ID=8227]

4[Option ID=8228]

Sl. No.16

QBID:15549316

Find the missing alphabet

BDGK, EGJN, MORV, L _ _ _ .

- (1) L N P S
- (2) L N Q V
- (3) L M Q V
- (4) L N Q U

निम्नलिखित शृंखला में लुप्त अक्षर बताइए -

BDGK, EGJN, MORV, L _ _ _ .

- (1) L N P S
- (2) L N Q V
- (3) L M Q V
- (4) L N Q U

1[Option ID=8229]

2[Option ID=8230]

3[Option ID=8231]

4[Option ID=8232]

Sl. No.17

QBID:15549317

D, E, F, G, H, I are six persons sitting around hexagonal table, each at one corner and facing the center of the table. D is second to the left of I. E is the neighbour of F and G. H is second to the left of G. Find who are the neighbours of H.

- (1) D and G

(2) D and I

(3) D and E

(4) I and G

D, E, F, G, H और I एक षट्भुजीय टेबल के चारों ओर बैठे हुए छः व्यक्ति हैं। हर व्यक्ति एक कोने पर बैठा है और टेबल के केन्द्र की ओर मुँह किए हुए है। I के बाईं ओर दुसरे स्थान पर D है। F और G का पड़ोसी E है। G के बाईं ओर दूसरे स्थान पर H हैं। H के पड़ोसी कौन हैं ?

(1) D और G

(2) D और I

(3) D और E

(4) I और G

1[Option ID=8233]

2[Option ID=8234]

3[Option ID=8235]

4[Option ID=8236]

SI. No.18

QBID:15549318

Of the 100 students in a class, anyone who chooses to study English also studies computer science. However, no student choose to study English and Physics. 16 students do Physics and computer Science. All the students do at least one of the three subjects. No. of students who study only one subject is more than students who study more than one subject. What are the maximum number of students who could have studied Physics only?

(1) 16

(2) 44

(3) 84

(4) 68

100 छात्रों की एक कक्षा में, यदि कोई अंग्रेजी पढ़ने का चुनाव करता है तो वह कम्प्यूटर विज्ञान भी पढ़ता है। कोई भी छात्र अंग्रेजी और भौतिकी का अध्ययन करने का चुनाव नहीं करता। 16 छात्र भौतिकी और कम्प्यूटर विज्ञान का चुनाव करते हैं। सोर छात्र तीनों विषयों में से कम से कम एक विषय पढ़ते हैं। केवल एक विषय पढ़ने वाले छात्रों की संख्या एक से अधिक विषय पढ़ने वाले छात्रों की संख्या से अधिक है। केवल भौतिकी पढ़ने वाले छात्रों की अधिकतम संख्या क्या हो सकती है।

(1) 16

(2) 44

(3) 84

(4) 68

1[Option ID=8237]

2[Option ID=8238]

3[Option ID=8239]

4[Option ID=8240]

SI. No.19

QBID:15549319

The following question has an underlined word. Choose the word from the given choices that is essential part of the underlined word.

Electric Mixer

- (1) Jug
- (2) Motor
- (3) Stand
- (4) Switch

निम्नलिखित प्रश्न में एक रेखांकित शब्द है। दिए गए विकल्पों में से ऐसा शब्द चुनिए जो रेखांकित शब्द का अनिवार्य हिस्सा हो।

विद्युत मिश्रक (इलेक्ट्रिक मिक्सर)

- (1) जग
- (2) मोटर
- (3) स्टैंड
- (4) स्विच

1[Option ID=8241]

2[Option ID=8242]

3[Option ID=8243]

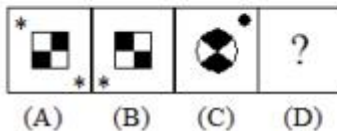
4[Option ID=8244]

Sl. No.20

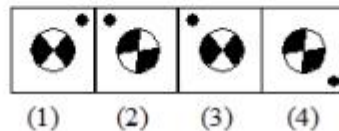
QBID:15549320

Select a suitable figure from the Answer figures that would replace the question mark (?)

Question Figure



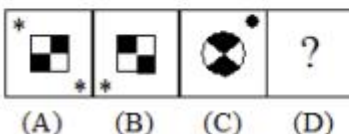
Answer Figure



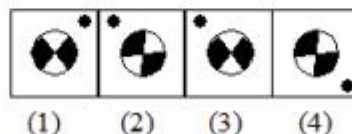
- (1) 1
- (2) 2
- (3) 3
- (4) 4

उत्तर आकृतियों में से एक उचित आकृति का चयन कीजिए जो प्रश्न आकृतियों में प्रश्नवाचक चिह्न का स्थान ले सके।

प्रश्न-आकृतियाँ



उत्तर-आकृतियाँ



- (1) 1
- (2) 2

(3) 3

(4) 4

1[Option ID=8249]

2[Option ID=8250]

3[Option ID=8251]

4[Option ID=8252]

Sl. No.21

QBID:15549321

In how many ways can 7 different balls be distributed in 5 different boxes. If any box can contain any number of balls except that ball 3 can only be put into box 3 or box 4 ?

(1) 2×6^5

(2) 6^5

(3) 2×5^6

(4) 5^6

कितने तरीकों से 7 अलग-अलग गेंदों को 5 अलग-अलग डिब्बों में वितरित किया जा सकता है यदि कोई भी डिब्बा कितनी भी गेंदों की संख्या रख पाये सिवाय इसके कि गेंद संख्या 3 केवल डिब्बा संख्या 3 या 4 में ही रखी जा सकती है ।

(1) 2×6^5

(2) 6^5

(3) 2×5^6

(4) 5^6

1[Option ID=8253]

2[Option ID=8254]

3[Option ID=8255]

4[Option ID=8256]

Sl. No.22

QBID:15549322

Given that $10^{0.48} = x$, $10^{0.70} = y$ and $x^z = y^2$, then the value of z is close to :

(1) 3.7

(2) 2.9

(3) 1.88

(4) 1.45

यदि $10^{0.48} = x$, $10^{0.70} = y$ और $x^z = y^2$, तो z का मान किसके निकट होगा ?

(1) 3.7

(2) 2.9

(3) 1.88

(4) 1.45

1[Option ID=8257]

2[Option ID=8258]

3[Option ID=8259]

4[Option ID=8260]

SI. No.23

QBID:15549323

In how many ways can 9 different colour balls be arranged in a row so that black, white, red and green balls are never together ?

- (1) 146200
- (2) 219600
- (3) 314562
- (4) 345600

कितने तरीकों से एक पंक्ति में 9 अलग-अलग रंगों की गेंदों को व्यवस्थित किया जा सकता है कि काली, सफेद, लाल और हरी गेंदें कभी साथ न रहें ?

- (1) 146200
- (2) 219600
- (3) 314562
- (4) 345600

1[Option ID=8261]

2[Option ID=8262]

3[Option ID=8263]

4[Option ID=8264]

SI. No.24

QBID:15549324

A tap can fill a tank in 6 hours. After half the tank is filled, three more similar taps are opened. What is the total time taken to fill the tank completely ?

- (1) 3 hrs 15 min
- (2) 4 hrs 15 min
- (3) 3 hrs 45 min
- (4) 4 hrs

एक नल एक कुन्ड को 6 घंटे में भर सकता है। जब आधा टैंक भर जाता है तो उसी तरह के तीन और नल खोल दिए जाते हैं / उस कुन्ड को पूरी तरह भरने में कुल कितना समय लगेगा ?

- (1) 3 घंटे 15 मिनट
- (2) 4 घंटे 15 मिनट
- (3) 3 घंटे 45 मिनट
- (4) 4 घंटे

1[Option ID=8265]

2[Option ID=8266]

3[Option ID=8267]

4[Option ID=8268]

SI. No.25

QBID:15549325

A person takes 20 minutes more to cover a certain distance by decreasing his speed by 20%. What is the time taken to cover the distance at his original speed ?

- (1) 1 hr
- (2) 1 hr 20 min

(3) 1 hr 10 min

(4) 50 min

यदि कोई व्यक्ति अपनी चाल को 20% बढ़ा दे तो उसे एक निश्चित दूरी को तय करने में उसे 20 मिनट अधिक लगते हैं। उसकी मूल चाल से उसे वह दूरी तय करने में कितना समय लगेगा ?

(1) 1 घंटे

(2) 1 घंटे 20 मिनट

(3) 1 घंटे 10 मिनट

(4) 50 मिनट

1[Option ID=8269]

2[Option ID=8270]

3[Option ID=8271]

4[Option ID=8272]

SI. No.26

QBID:1284611

Which City is not included in seven Cities of Delhi ?

(1) Lal Kot

(2) Janpath

(3) Jahan Panah

(4) Shah-Jahanabad

निम्नलिखित में से कौन सा शहर दिल्ली के सात शहरों में शामिल नहीं है?

(1) लाल कोट

(2) जनपथ

(3) जहाँ पनाह

(4) शाह जहाँनाबाद

1[Option ID=6701]

2[Option ID=6702]

3[Option ID=6703]

4[Option ID=6704]

SI. No.27

QBID:1284612

Match the builders with its city ?

LIST I		LIST II	
A.	Lal kot	I.	Alauddin Khilji
B.	Siri	II.	Shahjahan
C.	Tuglaqabad	III.	Ananga Pal Tomar
D.	Shahjahanbad	IV.	Gayasuddin

Choose the correct answer from the options given below:

(1) A-II, B-IV, C-III, D-I

(2) A-III, B-I, C-IV, D-II

(3)

A-IV, B-II, C-I, D-III

(4) A-I, B-III, C-II, D-IV

सूची - I के साथ सूची - II का मिलान किजिए:

सूची - I (शहर)		सूची - II (निर्माता)	
A	लाल कोट	I	अलाउद्दीन खिलजी
B	सीरी	II	शाहजहाँ
C	तुगलकाबाद	III	अनंगपाल तोमर
D	शाहजहाँनाबाद	IV	ग्यासुद्दीन

नीचे दिए गए विकल्पों में से सही उत्तर का चयन कीजिए:

- (1) A-II, VB-IV, C-III, D-I
- (2) A-III, B-I, C-IV, D-II
- (3) A-IV, B-II, C-I, D-III
- (4) A-I, B-III, C-II, D-IV

1[Option ID=6745]

2[Option ID=6746]

3[Option ID=6747]

4[Option ID=6748]

Sl. No.28

QBID:1284613

Statement A : Qutub Minar was completed by Shamsuddin Altmash.

Statement B : It was names after Qutubuddin Aibak his predecessor.

- (1) A and B both are correct and B is a right explanation of A.
- (2) A and B both are right but B is not a right explanation of A.
- (3) A is right but B is not correct.
- (4) A and B both are correct.

नीचे दो कथन दिए गए हैं: एक अभिकथन (Assertion A) के रूप में लिखित हैं तो दूसरा उसके कारण (Reason R) के रूप में:

कथन - I : कुतुबमीनार का निर्माण कार्य शम्सुद्दीन अल्तमश द्वारा पूर्ण किया गया था।

कथन - II : इसका नामकरण कुतुबुद्दीन ऐबक के पश्चात उसके पूर्ववर्ती शासकों द्वारा किया गया।

उपरोक्त कथन के आलोक में, नीचे दिए गए विकल्पों में से सही उत्तर का चयन कीजिए:

- (1) I और II दोनों सत्य हैं और II, I की सही व्याख्या है
- (2) I और II दोनों सत्य हैं, लेकिन II, I की सही व्याख्या नहीं है
- (3) I सत्य है, लेकिन II असत्य है
- (4) I और II दोनों सत्य है

- 1[Option ID=6789]
 2[Option ID=6790]
 3[Option ID=6791]
 4[Option ID=6792]

SI. No.29

QBID:1284614

Match the following Indus cities for their Architectural elements :

LIST I		LIST II	
A.	Lothal	I.	Yagya Vedis
B.	Dhola vira	II.	The Grainary
C.	Kalibangan	III.	Port town
D.	Mohen jodaro	IV.	The Three tier Layout of town

Choose the correct answer from the options given below:

- (1) A-I, B-III, C-I, D-IV
 (2) A-III, B-II, C-I, D-IV
 (3) A-III, B-II, C-IV, D-I
 (4) A-III, B-IV, C-I, D-II

सूची - I के साथ सूची - II का मिलान किजिए:

सूची - I (सैंधव शहर)		सूची - II (स्थापत्य संबंधी घटक)	
A	लोथल	I	यज्ञ वेदी
B	धौलावीरा	II	अन्नागार
C	कालीबंगन	III	पत्तननगर
D	मोहन जोदाड़ो	IV	शहर की त्रिस्तरीय संरचना

नीचे दिए गए विकल्पों में से सही उत्तर का चयन कीजिए:

- (1) A-I, B-III, C-I, D-IV
 (2) A-III, B-II, C-I, D-IV
 (3) A-III, B-II, C-IV, D-I
 (4) A-III, B-IV, C-I, D-II

- 1[Option ID=6833]
 2[Option ID=6834]
 3[Option ID=6835]
 4[Option ID=6836]

SI. No.30

QBID:1284615

Find the correct options:

These Mosques are built by Sharqui Dynasty

- (1) Jama Mosque, Atala Mosque and Hazar Situn Mosque.

(2) Jama Mosque, Lal Darwaja Mosque and Atala Mosque.

(3) Lal Darwaja Mosque and Atala Mosque.

(4) Only Atala Mosque

सही विकल्प चुनिये:

ये मस्जिदें शर्की राजवंश द्वारा निर्मित करायी गयी हैं

(1) जामा मस्जिद, अटाला मस्जिद और हजार सिटून मस्जिद

(2) जामा मस्जिद, लाल दरवाजा मस्जिद और अटाला मस्जिद

(3) लाल दरवाजा मस्जिद और अटाला मस्जिद

(4) केवल अटाला मस्जिद

1[Option ID=6877]

2[Option ID=6878]

3[Option ID=6879]

4[Option ID=6880]

SI. No.31

QBID:1284616

Which of these are integral Part of Mosque architecture :

(1) Mimbar, Mihrab and Iwan

(2) Mimbar, Lotus and Lalat Bimba

(3) Pillars, Pilaster

(4) Makar torana

निम्नलिखित में से कौन से मस्जिद वास्तुकला के अभिन्न अंग है:

(1) मिबर, मेहराब और इवान

(2) मिबर, कमल और ललत बिंब

(3) स्तंभ, प्लास्टर

(4) मकर तोरण

1[Option ID=6921]

2[Option ID=6922]

3[Option ID=6923]

4[Option ID=6924]

SI. No.32

QBID:1284617

Which is the oldest Rock cut Cave in India ?

(1) Bhaja Caves

(2) Barabar Caves

(3) Ajanta Caves

(4) Karla Caves

भारत में सबसे प्राचीन शैलकृत गुफा कौन सी है?

(1) भाजा गुफाएँ

(2) बाराबर गुफाएँ

(3) अजंता गुफाएँ

(4) कार्ला गुफाएँ

1[Option ID=6965]

2[Option ID=6966]

3[Option ID=6967]

4[Option ID=6968]

Sl. No.33

QBID:1284618

Which stone is used to carve the Kailashnatha Temple at Ellora ?

(1) Granite

(2) Quartzite

(3) Basalt

(4) Marble

एलोरा के कैलाशनाथ मंदिर को उत्कीर्ण करने के लिए कौन से पत्थर प्रयुक्त किये गये हैं?

(1) ग्रेनाइट

(2) कार्टज़ाइट

(3) बेसाल्ट

(4) संगमरमर

1[Option ID=6993]

2[Option ID=6994]

3[Option ID=6995]

4[Option ID=6996]

Sl. No.34

QBID:1284619

How many caves were carved during Gupta-Vakataka Period at Ajanta ?

(1) 29

(2) 30

(3) 27

(4) 28

गुप्त-वाकाटक काल के दौरान अजंता में कितनी गुफाएँ उत्कीर्णित की गयी थी?

(1) 29

(2) 30

(3) 27

(4) 28

1[Option ID=6997]

2[Option ID=6998]

3[Option ID=6999]

4[Option ID=7000]

Sl. No.35

QBID:12846110

Cuneiform was the script of which civilization ?

(1) Egypt

(2) Mesopotamian

(3) Chinese

(4) Greek

कीलाक्षर लिपि किस सभ्यता की लिपि थी ?

(1) मिस्र

(2) मेसोपोटामिया

(3) चीन

(4) यूनानी

1[Option ID=6705]

2[Option ID=6706]

3[Option ID=6707]

4[Option ID=6708]

Sl. No.36

QBID:12846111

The river Euphrates and Tigris flow together in Iraq and are known as :

(1) Shah-Al-Arab

(2) Shat-Al-Islam

(3) Dar-Al-Harb

(4) Nile River

इराक़ के दज़ला और फ़रात नदियाँ एक साथ बहती हैं, वे निम्नलिखित नाम से जानी जाती है:

(1) शातुल अरब

(2) शातुल इस्लाम

(3) दारुल हर्ब

(4) नील नदी

1[Option ID=6709]

2[Option ID=6710]

3[Option ID=6711]

4[Option ID=6712]

Sl. No.37

QBID:12846112

Arrange the Dynasties & Cultures of Ancient Mesopotamia in chronological order :

A. Kassite Period

B. Early Dynastic Period

C. Late Uruk Period

D. Old Babylonian Period

(1) A, D, C, B

(2) C, B, D, A

(3) B, D, C, A

(4) B, C, D, A

निम्नलिखित राजवंशो एवं प्राचीन मेसोपोटामियाई सांस्कृतियों का कालक्रमानुसार व्यवस्थित कीजिए:

- A. कास्साईट शासनकाल
- B. आरंभिक राजवंशीय शासनकाल
- C. उत्तरकालीन उरूक शासनकाल
- D. प्राचीन बेबीलोनियाई शासनकाल

नीचे दिए गए विकल्पों में से सही का चयन कीजिए:

- (1) A, D, C, B
- (2) C, B, D, A
- (3) B, D, C, A
- (4) B, C, D, A

1[Option ID=6713]

2[Option ID=6714]

3[Option ID=6715]

4[Option ID=6716]

Sl. No.38

QBID:12846113

What was "Kudduru" in Ancient Mesopotamia –

- (1) Record of Land Grants
- (2) Royal order of King to Merchants
- (3) Religious sermon of Priest
- (4) Contract between owner and slave

प्राचीन मेसोपोटामिया में 'कुददुरू' क्या था:

- (1) भूमि अनुदानों का रिकार्ड
- (2) व्यापारियों को राजा का शाही आदेश
- (3) पुराजी के धार्मिक उपदेश
- (4) स्वामी और दास के मध्य संविदा

1[Option ID=6717]

2[Option ID=6718]

3[Option ID=6719]

4[Option ID=6720]

Sl. No.39

QBID:12846114

In 1922 which archaeologist excavated the famous Tomb of Tutankhamun ?

- (1) Theodor Davis
- (2) Sir John Marshall
- (3) Mortemer Wheeler
- (4) Howard Carter

तूतनखामून के प्रसिद्ध उत्खनन वर्ष 1922 में किस पुरातत्ववेत्ता ने करवाया?

- (1) थियोडोर डेविस
- (2) सर जॉन मार्शल
- (3) मॉर्टीमर व्हीलर
- (4) हॉवर्ड कार्टर

1[Option ID=6721]

2[Option ID=6722]

3[Option ID=6723]

4[Option ID=6724]

SI. No.40

QBID:12846115

Anubis, also called Anpu, ancient Egyptian God of the Dead, is represented as

- (1) Personification of River Nile
- (2) The figure of a man with the head of a jackal
- (3) Shown as Falcon, linked with sky and sun
- (4) Lunar deity or Moon

प्राचीन मिस्र के मृत्यु के देवता अनूबिस, जो अनपू भी कहलाते थे, किस रूप में प्रस्तुत किये गये हैं००:

- (1) नील नदी का मानवीकरण
- (2) एक शृगाल के सिर के साथ एक मनुष्य का चित्र
- (3) आसमान और सूर्य से संबद्ध बाज के रूप में प्रदर्शित
- (4) चंद्र देवता या चंद्रमा

1[Option ID=6725]

2[Option ID=6726]

3[Option ID=6727]

4[Option ID=6728]

SI. No.41

QBID:12846116

Valley of the King is situated at ?

- (1) Babylonia
- (2) Sumeria
- (3) Egypt
- (4) Gulf of Persia

राजा की घाटी कहाँ स्थित है?

- (1) बेबीलोनिया
- (2) सुमेरिया
- (3) मिस्र
- (4) फारस की खाड़ी

1[Option ID=6729]

2[Option ID=6730]

3[Option ID=6731]
4[Option ID=6732]

SI. No.42

QBID:12846117

Put the Dynasties of Egypt in chronological order :

- A. The emergence of Egyptian state
- B. Naquada Period
- C. The 18th Dynasty
- D. The Amara Period

- (1) A, B, C, D
- (2) C, D, B, A
- (3) B, A, C, D
- (4) D, B, A, C

मिस्र के राजवंशों को कालानुक्रमानुसार व्यवस्थित कीजिए:

- A. मिस्री राज्य का आविर्भाव
- B. नाकदा शासनकाल
- C. 18वां राजवंश
- D. अमारा शासनकाल

नीचे दिए गए विकल्पों में से सही उत्तर का चयन कीजिए:

- (1) A, B, C, D
- (2) C, D, B, A
- (3) B, A, C, D
- (4) D, B, A, C

1[Option ID=6733]

2[Option ID=6734]

3[Option ID=6735]

4[Option ID=6736]

SI. No.43

QBID:12846118

What is hieroglyph ?

- (1) Name of Death God
- (2) Goddess of Sky
- (3) An epic of Ancient Egypt
- (4) A pictographic script

हायरोग्लिफ क्या है?

- (1) मृत्यु के देवता का नाम
- (2) आकाश की देवी
- (3) प्राचीन मिस्र का एक महाकाव्य
- (4) एक चित्रात्मक लिपि

- 1[Option ID=6737]
- 2[Option ID=6738]
- 3[Option ID=6739]
- 4[Option ID=6740]

Sl. No.44

QBID:12846119

According to the Puranas which incarnation of Vishnu is attached to the Churning of Ocean or "Samudra Manthan" ?

- (1) Fish
- (2) Tortoise
- (3) Boar
- (4) Narsingh

पुराणों के अनुसार विष्णु का निम्नलिखित में से कौन सा अवतार 'समुद्र मंथन' से संबद्धित है?

- (1) मत्स्य
- (2) कच्छप
- (3) वाराह
- (4) नरसिंह

1[Option ID=6741]

2[Option ID=6742]

3[Option ID=6743]

4[Option ID=6744]

Sl. No.45

QBID:12846120

Which Goddess emerged after churning of the Ocean ?

- (1) Gayatri
- (2) Savita
- (3) Saraswati
- (4) Varuni

समुद्र मंथन के पश्चात कौन सी देवी प्रकट हुई ?

- (1) गायत्री
- (2) सविता
- (3) सरस्वती
- (4) वारुणी

1[Option ID=6749]

2[Option ID=6750]

3[Option ID=6751]

4[Option ID=6752]

Sl. No.46

QBID:12846121

Vedika is part of which architecture ?

- (1) Cenotaph
- (2) Chaitya

(3) Vihara

(4) Stupa

वेदिका किस वास्तुकला का अंग है?

(1) स्मारक

(2) चैत्य

(3) विहार

(4) स्तूप

1[Option ID=6753]

2[Option ID=6754]

3[Option ID=6755]

4[Option ID=6756]

Sl. No.47

QBID:12846122

According to Greek Historian Alexendar took which metal with himself known as "Ferrum Indicum" ?

(1) Gold

(2) Silver

(3) Steel

(4) Copper

यूनानी इतिहासकारों के अनुसार सिकंदर अपने साथ कौन सी धातु लाया था जिसे 'फेरम इंडिकम' के नाम से जाना जाता है?

(1) स्वर्ण

(2) रजत

(3) स्टील

(4) ताम्र

1[Option ID=6757]

2[Option ID=6758]

3[Option ID=6759]

4[Option ID=6760]

Sl. No.48

QBID:12846123

Rath Temple was built by which dynasty ?

(1) Chandel

(2) Gurjar Pratihar

(3) Rashtrakuta

(4) Pallava

रथ मंदिर किस राजवंश द्वारा निर्मित कराया गया था?

(1) चंदेल

(2) गुर्जर प्रतिहार

(3) राष्ट्रकूट

(4) पल्लव

- 1[Option ID=6761]
2[Option ID=6762]
3[Option ID=6763]
4[Option ID=6764]

SI. No.49

QBID:12846124

Thangka are :

- (1) Paintings from Rajasthan and Gujarat
- (2) Paintings from Tibet and Ladakh
- (3) Paintings from Telangana and Andhra Pradesh
- (4) Paintings from Karnataka and Kerala

थांगका है:

- (1) राजस्थान और गुजरात की पेंटिंग
- (2) तिब्बत और लद्दाख की पेंटिंग
- (3) तेलंगाना और आंध्र प्रदेश की पेंटिंग
- (4) कर्नाटक और केरल की पेंटिंग

- 1[Option ID=6765]
2[Option ID=6766]
3[Option ID=6767]
4[Option ID=6768]

SI. No.50

QBID:12846125

Match the various Ceramics with the temperatures they baked :

LIST I		LIST II	
A.	Earthenware	I.	1015 Degree Celsius
B.	Terracota	II.	1125 Degree Celsius
C.	Stoneware	III.	1350 Degree Celsius
D.	Porcelain	IV.	1285 Degree Celsius

Choose the correct answer from the options given below:

- (1) A-IV, B-I, C-II, D-III
- (2) A-II, B-I, C-IV, D-III
- (3) A-II, B-III, C-I, D-IV
- (4) A-I, B-IV, C-III, D-II

सूची - I के साथ सूची - II का मिलान किजिए:

सूची - I (मृत्ति का शिल्प)		सूची - II (तापमान)	
A	मृदभांड (अथेनवेयर)	I	1015 डिग्री सेल्सियस
B	मृष्मूर्ति (टेराकोटा)	II	1125 डिग्री सेल्सियस
C	प्रस्तरभांड (स्टोनवेयर)	III	1350 सेल्सियस
D	चीनी मिट्टी के बर्तन (पोर्सलेन)	IV	1285 डिग्री सेल्सियस

नीचे दिए गए विकल्पों में से सही उत्तर का चयन कीजिए:

- (1) A-IV, B-I, C-II, D-III
- (2) A-II, B-I, C-IV, D-III
- (3) A-II, B-III, C-I, D-IV
- (4) A-I, B-IV, C-III, D-II

1[Option ID=6769]

2[Option ID=6770]

3[Option ID=6771]

4[Option ID=6772]

SI. No.51

QBID:12846126

Statement A: Terracotta is made of clay

Statement B : Terracotta is baked in sunlight.

- (1) A is correct but B is wrong.
- (2) A is correct but B is not right explanation of A.
- (3) A and B both are incorrect.
- (4) A and B both are right.

कथन - A : मृष्मूर्ति (टेराकोटा) मृत्तिका से निर्मित होती है।

कथन - B : मृष्मूर्ति (टेराकोटा) धूप में पकाया जाता है।

- (1) A सही है किन्तु B गलत है
- (2) A सही है किन्तु B, A की सही व्याख्या नहीं है
- (3) A और B दोनों गलत है
- (4) A और B दोनों सही हैं

1[Option ID=6773]

2[Option ID=6774]

3[Option ID=6775]

4[Option ID=6776]

SI. No.52

QBID:12846127

The famous sculptures of Terracotta Ganga and Yamuna at National Museum of India were found from which Archaeological site ?

- (1)

Hulaspur

- (2) Atranjikhhera
- (3) Ahichatrapur
- (4) Kannauj

भारत के राष्ट्रीय संग्रहालय की गंगा और यमुना टेराकोटा से निर्मित प्रसिद्ध मूर्ति निम्नलिखित में से किस पुरातात्विक स्थल से प्राप्त हुई?

- (1) हुलासपुर
- (2) अतरंजीखेड़ा
- (3) अहिछत्रपुर
- (4) कन्नौज

1[Option ID=6777]
2[Option ID=6778]
3[Option ID=6779]
4[Option ID=6780]

Sl. No.53

QBID:12846128

Kalyan Sundara Murti can be described as :

- (1) Vishnu in Kalyana Mudra
- (2) Shiva in Kalyana Mudra
- (3) Wedding of Shiva and Parvati
- (4) Depiction of Ganesha in Kalyana Mudra

कल्याण सुंदर मूर्ति निम्नलिखित में से किस रूप में वर्णिक की जा सकती है?

- (1) विष्णु की कल्याण मुद्रा
- (2) शिव की कल्याण मुद्रा
- (3) शिव और पार्वती का विवाह
- (4) गणेश की कल्याण मुद्रा का चित्रण

1[Option ID=6781]
2[Option ID=6782]
3[Option ID=6783]
4[Option ID=6784]

Sl. No.54

QBID:12846129

Which is not an attribute of Vishnu sculpture ?

- (1) Mace
- (2) Chakra
- (3) Lotus
- (4) Trident

विष्णुमूर्ति का लक्षण निम्नलिखित में से कौन सा नहीं है?

- (1) गदा
चक्र

- (2)
- (3) कमल
- (4) त्रिशूल

1[Option ID=6785]
2[Option ID=6786]
3[Option ID=6787]
4[Option ID=6788]

Sl. No.55
QBID:12846130

Arjuna's penance rock cut panel is situated at :

- (1) Mahabalipuram
- (2) Brihadeshwar Temple
- (3) Meenakshi Temple
- (4) Gangaikonda cholapuram

अर्जुन का तपस्यारत शैलोत्कीर्ण प्रपट्ट कहाँ स्थित है?

- (1) महाबलिपुरम
- (2) बृहदेश्वर मंदिर
- (3) मीनीक्षा मंदिर
- (4) गंगेइकोंड चोलपुरम्

1[Option ID=6793]
2[Option ID=6794]
3[Option ID=6795]
4[Option ID=6796]

Sl. No.56
QBID:12846131

Famous sculpture of Shaal Bhanjika is carved on which Monuments ?

- (1) Dashavatar Temple, Lalitpur
- (2) Sanchi Stupa
- (3) Udaygiri Caves
- (4) Maha Bodhi Temple, Bodh Gaya

शाल भंजिका की प्रसिद्ध मूर्ति किस स्मारक पर उत्कीर्ण है?

- (1) दशावतार मंदिर, ललितपुर
- (2) सांची स्तूप
- (3) उदयगिरी गुफाएं
- (4) महाबोधि मंदिर, बोधगया

1[Option ID=6797]
2[Option ID=6798]
3[Option ID=6799]
4[Option ID=6800]

SI. No.57

QBID:12846132

Which of the Jain Tirthankaras is represented by the symbol Elephant :

- (1) Mahavira
- (2) Rishabhdev
- (3) Parashvanath
- (4) Ajitnath

निम्नलिखित जैन तीर्थंकरों में से किसे गज (हाथी) के प्रतीक द्वारा प्रस्तुत किया गया है?

- (1) महावीर
- (2) ऋषभदेव
- (3) पार्श्वनाथ
- (4) अजितनाथ

1[Option ID=6801]

2[Option ID=6802]

3[Option ID=6803]

4[Option ID=6804]

SI. No.58

QBID:12846133

Trivikram Sculpture is related to which God of Hindu Pantheon ?

- (1) Indra
- (2) Vishnu
- (3) Kuber
- (4) Mahavir Swami

त्रिविक्रम मूर्ति निम्नलिखित में से हिन्दू सर्वदेववाद के किस देवता से संबंधित है?

- (1) इंद्र
- (2) विष्णु
- (3) कुबेर
- (4) महावीर स्वामी

1[Option ID=6805]

2[Option ID=6806]

3[Option ID=6807]

4[Option ID=6808]

SI. No.59

QBID:12846134

Dagobas are synonym for Buddhist Stupas in which following country ?

- (1) Indonesia
- (2) China
- (3) Sri Lanka
- (4) Nepal

दगोबास निम्नलिखित में से किस देश में बौद्ध स्तूपों के पर्याय हैं?

- (1) इंडोनेशिया

- (2) चीन
- (3) श्रीलंका
- (4) नेपाल

1[Option ID=6809]
2[Option ID=6810]
3[Option ID=6811]
4[Option ID=6812]

SI. No.60

QBID:12846135

Which city of Sri Lanka has the earliest Buddhist Sculptures ?

- (1) Katak Chaitya, Mihintale
- (2) Anuradhapur
- (3) Runawali
- (4) Colombo

श्रीलंका के किस शहर में आद्य बौद्धमूर्तियाँ हैं?

- (1) कर्नाटक चैत्य, मिहिंटेल
- (2) अनुराधापुर
- (3) रुनावली
- (4) कोलंबो

1[Option ID=6813]
2[Option ID=6814]
3[Option ID=6815]
4[Option ID=6816]

SI. No.61

QBID:12846136

In which country Hindu and Buddhist temples are known as Candis ?

- (1) Sri Lanka
- (2) Indonesia
- (3) Afghanistan
- (4) China

निम्नलिखित में से किस देश में हिन्दू और बौद्ध मंदिरों को कैडिस कहा जाता है?

- (1) श्रीलंका
- (2) इंडोनेशिया
- (3) अफगानिस्तान
- (4) चीन

1[Option ID=6817]
2[Option ID=6818]
3[Option ID=6819]
4[Option ID=6820]

SI. No.62

QBID:12846137

Kakawin are poems written in which language ?

- (1) Sanskrit
- (2) Old Javanese
- (3) Malay
- (4) Cambodian

काकविन कविताएँ किस भाषा में लिखी गई हैं?

- (1) संस्कृत
- (2) प्राचीन यव भाषा (जावा)
- (3) मलय
- (4) कंबोडियाई

1[Option ID=6821]

2[Option ID=6822]

3[Option ID=6823]

4[Option ID=6824]

Sl. No.63

QBID:12846138

Choose the Buddhist temple situated in Nepal out of these old heritage buildings :

- (1) Changu Narayan Temple
- (2) Swayambhu Temple
- (3) Pashupati Nath Temple
- (4) Budha Nilakantha Temple

नेपाल में स्थित निम्नलिखित प्राचीन विरासत भवनों में से बौद्ध मंदिर को चुनिये:

- (1) छंगू नारायण मंदिर
- (2) स्वयंभू मंदिर
- (3) पशुपतिनाथ मंदिर
- (4) बुद्ध नीलकंठ मंदिर

1[Option ID=6825]

2[Option ID=6826]

3[Option ID=6827]

4[Option ID=6828]

Sl. No.64

QBID:12846139

The Minarate of Jam was erected by which king of Ghurid dynasty ?

- (1) Sultan Al-Muajjam(1149-1161)
- (2) Sayfud-Din Muhammad (1161-63)
- (3) Ghyasuddin Muhammad (1163-1203)
- (4) Sultan Shabuddin Muhammad Ghori (1203-1206)

जम की मीनार गौरी राजवंश के किस शासक द्वारा निर्मित कराई गई थी?

- (1) सुतलान अल-मुअज्जम (1149-1161)
- (2) सैफुद्दीन मुहम्मद (1161-1163)

- (3) ग्यासुद्दीन मुहम्मद (1163-1203)
(4) सुलतान शहाबुद्दीन मुहम्मद गोरी (1203-1206)

1[Option ID=6829]
2[Option ID=6830]
3[Option ID=6831]
4[Option ID=6832]

Sl. No.65

QBID:12846140

Which place of Afghanistan has bilingual Inscription of Mauryan King Ashoka ?

- (1) Mansera
(2) Shahbaj Garhi
(3) Chehel Zina
(4) Kalsi

मौर्यवंश के शासक अशोक का द्विभाषी अभिलेख अफगानिस्तान के किस स्थान पर है?

- (1) मनसेरा
(2) शहबाज गढ़ी
(3) चहल ज़िना
(4) कलसी

1[Option ID=6837]
2[Option ID=6838]
3[Option ID=6839]
4[Option ID=6840]

Sl. No.66

QBID:12846141

Which Grotto is known as "Thousand Buddha cave" in China ?

- (1) Mogao caves
(2) Bing Ling Grotto
(3) Longmen Grottoes
(4) Yungang Grottoes

चीन में 'हजार बौद्ध गुफा' के नाम से कौन सी कंदरा (ग्रोटो) जानी जाती है?

- (1) मगाओ गुफाएँ
(2) बिंग लिंग कंदरा
(3) लांगमैन कंदराएँ
(4) युंगांग कंदराएँ

1[Option ID=6841]
2[Option ID=6842]
3[Option ID=6843]
4[Option ID=6844]

Sl. No.67

QBID:12846142

Choose the important Post-Impressionist artist from the list below :

- (1) Vincent Van Gogh
- (2) Eduard Manet
- (3) Edgar Degas
- (4) Michaelangelo Buonaroti

नीचे दर्ई गई सूची में से महत्वपूर्ण उत्तर-प्रभाववादी कलाकार को चिन्हित कीजिए:

- (1) विन्सेन्ट वान गॉग
- (2) एडुअर्ड माने
- (3) एडगर देगा
- (4) माइकेलएंजेलो बुओनर्रोती

1[Option ID=6845]

2[Option ID=6846]

3[Option ID=6847]

4[Option ID=6848]

Sl. No.68

QBID:12846143

Identify the artwork :



- (1) Venus of Willendorf
- (2) Dancing Girl
- (3) Indus Valley Mother Goddess
- (4) Venus of Eliseevichi

निम्नलिखित कलाकृति को चिन्हित कीजिए:



- (1) वीनस ऑफ विलेन्डॉर्फ
- (2) डांसिंग गर्ल
- (3) सिंधु घाटी मातृदेवी

(4) वीनस ऑफ इलिसीवीचि

1[Option ID=6849]

2[Option ID=6850]

3[Option ID=6851]

4[Option ID=6852]

Sl. No.69

QBID:12846144

The famous art style 'Rococo' comes from which country ?

- (1) Germany
- (2) Greece
- (3) Italy
- (4) France

प्रसिद्ध कला शैली 'रोकोको' किस देश से आविर्भूत हुई है?

- (1) जर्मनी
- (2) यूनान
- (3) इटली
- (4) फ्रांस

1[Option ID=6853]

2[Option ID=6854]

3[Option ID=6855]

4[Option ID=6856]

Sl. No.70

QBID:12846145

Match the following famous painting to their corresponding artist,

LIST I		LIST II	
A.	Las Meninas	I.	Leonardo Da Vinci
B.	Gioconda (Mona Lisa)	II.	Pablo Picasso
C.	Birth of Venus	III.	Diego Velazquez
D.	Les Demoiselles d'Avignon	IV.	Sandro Botticelli

Choose the correct answer from the options given below:

- (1) A-II, B-IV, C-III, D-I
- (2) A-III, B-I, C-IV, D-II
- (3) A-IV, B-II, C-I, D-III
- (4) A-I, B-III, C-II, D-IV

सूची - I के साथ सूची - II का मिलान किजिए:

सूची - I (प्रसिद्ध पेंटिंग)		सूची - II (संबंधित कलाकार)	
A	लास मेनीनास	I	लिओनार्दो दा विन्ची
B	जिओकोन्डा (मोनालिसा)	II	पालबो पिकासो
C	बर्थ ऑफ वीनस	III	डिएगो वेलाज़केज़
D	लेस डिर्मायसेल्लेस डी एविग्रन	IV	सैंड्रो बोट्टी सेल्ली

नीचे दिए गए विकल्पों में से सही उत्तर का चयन कीजिए:

- (1) A-II, B-IV, C-III, D-I
- (2) A-III, B-I, C-IV, D-II
- (3) A-IV, B-II, C-I, D-III
- (4) A-I, B-III, C-II, D-IV

1[Option ID=6857]

2[Option ID=6858]

3[Option ID=6859]

4[Option ID=6860]

Sl. No.71

QBID:12846146

What is the time period of the Gothic art style in western Europe ?

- (1) 14th to 18th Century
- (2) 13th to 17th Century
- (3) 12th to 16th Century
- (4) 11th to 13th Century

पश्चिमी यूरोप में गोथिक कला शैली की कालावधि क्या है?

- (1) 14 वीं से 18 वीं सदी
- (2) 13 वीं से 17 वीं सदी
- (3) 12 वीं से 16 वीं सदी
- (4) 11 वीं से 13 वीं सदी

1[Option ID=6861]

2[Option ID=6862]

3[Option ID=6863]

4[Option ID=6864]

Sl. No.72

QBID:12846147

Name the artist who executed the famous fresco "The Creation of Adam" in the Sistine Chapel, Vatican City.

- (1) Roger Van Der Weyden
- (2) Jan Van Eyck
- (3) Giotto di Bondone
- (4)

Michelangelo di Lodovico Buonarroti

सिस्टन चैपल, वेटिकन सिटी में प्रसिद्ध भित्त चित्र 'द क्रिएशन ऑफ एडम' को किस कलाकार ने प्रस्तुत किया?

- (1) रोजर वान डेर वेयडेन
- (2) जान वान आइक
- (3) गिओटो डी बोन्डोन
- (4) माइकेलएंजेलो डी लोडोविको बुओनर्रोत्ती

1[Option ID=6865]

2[Option ID=6866]

3[Option ID=6867]

4[Option ID=6868]

Sl. No.73

QBID:12846148

In which century did the famous artist Salvador Dali lived and worked ?

- (1) 18th Century
- (2) 20th Century
- (3) 19th Century
- (4) 14th Century

निम्नलिखित में से किस सदी में प्रसिद्ध कलाकार सल्वडोर डाली रहे एवं कार्य किया?

- (1) 18 वीं सदी
- (2) 20 वीं सदी
- (3) 19 वीं सदी
- (4) 14 वीं सदी

1[Option ID=6869]

2[Option ID=6870]

3[Option ID=6871]

4[Option ID=6872]

Sl. No.74

QBID:12846149

Name three (03) characteristics of the Baroque style.

- A. Grandeur
- B. Sensuous
- C. Tendency
- D. Drama

Choose the correct option :

- (1) A, B, D
- (2) A, B, C
- (3) A, C, D
- (4) B, C, D

बारौक शैली की तीन (03) विशेषताएँ बताइये:

- A. वैभव
- B. कामुक
- C. प्रवृत्ति
- D. नाटक

सही विकल्प चुनिये:

- (1) A, B, D
- (2) A, B, C
- (3) A, C, D
- (4) B, C, D

1[Option ID=6873]

2[Option ID=6874]

3[Option ID=6875]

4[Option ID=6876]

SI. No.75

QBID:12846150

Who is the author of book "Fundamental of Indian Art" ?

- (1) Rai Kishan Das
- (2) Ananda Kentish Coomaraswamy
- (3) P. Banerjee
- (4) Stella Kramisch

'फंडामेन्टल ऑफ इंडियन आर्ट' पुस्तक के लेखक कौन हैं?

- (1) राय किशन दास
- (2) आनंद केन्दिश कुमारस्वामी
- (3) पी. बनर्जी
- (4) स्टेला क्रामिश

1[Option ID=6881]

2[Option ID=6882]

3[Option ID=6883]

4[Option ID=6884]

SI. No.76

QBID:12846151

Iron Pillar is situated in which of the following complex ?

- (1) Red Fort
- (2) Ellora
- (3) Qutub
- (4) Konark

निम्नलिखित में से किस परिसर में लौहस्तंभ स्थित है?

- (1) लाल किला
- (2) एलोरा

(3) कुतुब

(4) कोणार्क

1[Option ID=6885]

2[Option ID=6886]

3[Option ID=6887]

4[Option ID=6888]

Sl. No.77

QBID:12846152

Basholi is a school of ?

(1) Miniature Painting

(2) Granite Sculptures

(3) Calligraphic Art

(4) Graphic Art

बसहोली निम्नलिखित में से किस शाखा से संबंधित है?

(1) लघुचित्र चित्रकारी

(2) ग्रेनाइट मूर्तिकला

(3) सुलेख-कला

(4) ग्राफीय-कला

1[Option ID=6889]

2[Option ID=6890]

3[Option ID=6891]

4[Option ID=6892]

Sl. No.78

QBID:12846153

Nain Sukh was a known artist of :

(1) Making of eye ointment

(2) Stone sculpture

(3) Miniature painting

(4) Lacquer work

नैन सुख निम्नलिखित में से किसके प्रसिद्ध कलाकार थे?

(1) नेत्र ऑयनमेंट निर्माण

(2) प्रस्तर मूर्तिकला

(3) लघुचित्र चित्रकारी

(4) रोगन कार्य

1[Option ID=6893]

2[Option ID=6894]

3[Option ID=6895]

4[Option ID=6896]

Sl. No.79

QBID:12846154

Raja Ravi Verma is famous as.

- (1) Oil Painting Artist
- (2) Miniature Painting Artist
- (3) Mural artist
- (4) Sculptor

राजा रवि वर्मा निम्नलिखित रूप में प्रसिद्ध हैं.

- (1) तैलचित्र कलाकार (ऑयल पेन्टिंग आर्टिस्ट)
- (2) लघुचित्र चित्रकारी कलाकार
- (3) भित्तिचित्र कलाकार
- (4) मूर्तिकार

1[Option ID=6897]
2[Option ID=6898]
3[Option ID=6899]
4[Option ID=6900]

SI. No.80

QBID:12846155

Which painter is not included in Progressive Artist's Group ?

- (1) F.N Souza
- (2) M.F. Hussain
- (3) H.A. Gade
- (4) R.K. Baij

प्रगतिशील कलाकार समूह (प्रोग्रेसिव आर्टिस्ट ग्रुप) में निम्नलिखित में से कौन सा चित्रकार सम्मिलित नहीं है?

- (1) एफ.एन. सोज़ा
- (2) एम.एफ. हुसेन
- (3) एच.ए. गेड
- (4) आर.के. बेज

1[Option ID=6901]
2[Option ID=6902]
3[Option ID=6903]
4[Option ID=6904]

SI. No.81

QBID:12846156

Who was the Chief Architect of New Delhi ?

- (1) Colonel S.S. Jacob
- (2) Hector Munaro
- (3) Sir Edward Lutyens
- (4) Ustad Isa Khan

नई दिल्ली का मुख्य वास्तुकार कौन था ?

- (1) कर्नल एस.एस. जैकब
- (2) हेक्टर मुनरो
- (3)

सर एडवर्ड लुटियंस

(4) उस्ताद ईसा खान

- 1[Option ID=6905]
2[Option ID=6906]
3[Option ID=6907]
4[Option ID=6908]

Sl. No.82

QBID:12846157

Who is the author of the book “Piety and Splendour: Sikh Heritage in Art” ?

- (1) N.R. Banerjee
(2) B.N. Goswamy
(3) S.V. Tripathi
(4) M.S. Randhawa

पाइटी एंड स्पलेण्डर: सिख हेरिटेज इन आर्ट पुस्तक के लेखक कौन हैं?

- (1) एन.आर. बनर्जी
(2) बी.एन. गोस्वामी
(3) एस.वी. त्रिपाठी
(4) एम.एस. रंधावा

- 1[Option ID=6909]
2[Option ID=6910]
3[Option ID=6911]
4[Option ID=6912]

Sl. No.83

QBID:12846158

Which artist Founded the “Indian Society of Oriental Art” and “Bengal school of Art” ?

- (1) Abanindranath Tagore
(2) Rabindranath Tagore
(3) Devendranath Tagore
(4) Nandlal Bose

'भारतीय प्राच्य कला समाज' (इंडियन सोसायटी ऑफ ओरिएंटल आर्ट) और 'बंगाल कला स्कूल' (बंगाल स्कूल ऑफ आर्ट) की स्थापना किस कलाकार ने की ?

- (1) अबनीन्द्रनाथ टैगोर
(2) रवीन्द्रनाथ टैगोर
(3) देवेन्द्रनाथ टैगोर
(4) नंदलाल बोस

- 1[Option ID=6913]
2[Option ID=6914]
3[Option ID=6915]
4[Option ID=6916]

Sl. No.84

QBID:12846159

Which temple Group of Khajuraho has similarity in architectural style with Indian Parliament Building ?

- (1) Chausath Yogini Temple
- (2) Kandariya Mahadev Temple
- (3) Laxman Temple
- (4) Adinath Temple

निम्नलिखित में से किस खजुराहो मंदिर समूह की वास्तुशैली भारतीय संसद भवन के समान है?

- (1) चौसठ योगिनी मंदिर
- (2) कंदरिया महादेव मंदिर
- (3) लक्ष्मण मंदिर
- (4) आदिनाथ मंदिर

1[Option ID=6917]

2[Option ID=6918]

3[Option ID=6919]

4[Option ID=6920]

Sl. No.85

QBID:12846160

Who was the Architect of Hawa Mahal situated in Jaipur ?

- (1) Ustad Lal Chand
- (2) Madho
- (3) Khemkaran
- (4) Ustad Tara

जयपुर में स्थित हवामहल के वास्तुकार कौन थे?

- (1) उस्ताद लालचंद
- (2) माधो
- (3) खेमकरण
- (4) उत्साद तारा

1[Option ID=6925]

2[Option ID=6926]

3[Option ID=6927]

4[Option ID=6928]

Sl. No.86

QBID:12846161

Choose the cities where Jantar Mantar built by Sawai Jai Singh is situated?

- A. Jaipur
- B. Mathura
- C. Agra
- D. Delhi

Choose the correct Option :

- (1) A, C, D

(2) B, C, D

(3) A, B, D

(4) A, B, C

निम्नलिखित में से उन शहरों को चुनिये जहाँ सवाई जयसिंह द्वारा निर्मित जन्मतर-मन्तर स्थित हैं?

- A. जयपुर
- B. मथुरा
- C. आगरा
- D. दिल्ली

नीचे दिए गए विकल्पों में से सही उत्तर का चयन कीजिए:

(1) केवल A, C, D

(2) केवल B, C, D

(3) केवल A, B, D

(4) केवल A, B, C

1[Option ID=6929]

2[Option ID=6930]

3[Option ID=6931]

4[Option ID=6932]

Sl. No.87

QBID:12846162

Which of the followings forts are situated on the mountain gorge ?

- A. Jaigarh Fort, Jaipur
- B. Red Fort, Agra
- C. Mehrangarh Fort
- D. Sonar Fort, Jaisalmer

Choose the correct answer :

(1) A, B, C

(2) A, C, D

(3) B, C, D

(4) A, B, D

निम्नलिखित में से कौन से किले पहाड़ी दर्रे पर स्थित हैं?

- A. जयगढ़ किला, जयपुर
- B. लाल किला, आगरा
- C. मेहरानगढ़ किला
- D. सोनार किला, जैसलमेर

नीचे दिए गए विकल्पों में से सही उत्तर का चयन कीजिए:

(1) केवल A, B, C

- (2) केवल A, C, D
- (3) केवल B, C, D
- (4) केवल A, B, D

1[Option ID=6933]

2[Option ID=6934]

3[Option ID=6935]

4[Option ID=6936]

Sl. No.88

QBID:12846163

Which is of the following are counted among four prominent Vedas ?

- A. Yajurveda
- B. Dhanurveda
- C. Rigveda
- D. Samaveda

Choose the correct option :

- (1) A, B, C
- (2) A, C, D
- (3) B, C, D
- (4) A, B, D

निम्नलिखित में से कौन से चार प्रमुख वेदों में गिने जाते हैं?

- A. यजुर्वेद
- B. धनुर्वेद
- C. ऋग्वेद
- D. सामवेद

नीचे दिए गए विकल्पों में से सही उत्तर का चयन कीजिए:

- (1) केवल A, B, C
- (2) केवल A, C, D
- (3) केवल B, C, D
- (4) केवल A, B, D

1[Option ID=6937]

2[Option ID=6938]

3[Option ID=6939]

4[Option ID=6940]

Sl. No.89

QBID:12846164

Which of the following Sanskaras are related to Birth ?

- A. Simantonayan
- B. The Punsavan
- C. Annaprashan
- D. Vedarambha

Choose the correct option :

- (1) A, B, D
- (2) B, C, D
- (3) A, C, D
- (4) A, B, C

निम्नलिखित में से कौन से संस्कार जन्म से संबंधित हैं?

- A. सीमांतोनयन
- B. पुंसवन
- C. अन्नप्राशन
- D. वेदारम्भ

नीचे दिए गए विकल्पों में से सही उत्तर का चयन कीजिए:

- (1) केवल A, B, D
- (2) केवल B, C, D
- (3) केवल A, C, D
- (4) केवल A, B, C

1[Option ID=6941]

2[Option ID=6942]

3[Option ID=6943]

4[Option ID=6944]

Sl. No.90

QBID:12846165

Pata Chitra Paintings belong to which state of India ?

- (1) Orrisa
- (2) Tamil Nadu
- (3) Rajasthan
- (4) Gujarat

पटचित्र पेंटिंग भारत के किस राज्य से संबंधित हैं?

- (1) ओड़िशा
- (2) तमिलनाडु
- (3) राजस्थान
- (4) गुजरात

- 1[Option ID=6945]
2[Option ID=6946]
3[Option ID=6947]
4[Option ID=6948]

SI. No.91

QBID:12846166

Madhubani Paintings are related to which state of India ?

- (1) Orissa
- (2) Bihar
- (3) Maharashtra
- (4) Chattisgarh

मधुबनी पेंटिंग्स भारत के किस राज्य से संबंधित हैं?

- (1) ओड़िशा
- (2) बिहार
- (3) महाराष्ट्र
- (4) छत्तीसगढ़

- 1[Option ID=6949]
2[Option ID=6950]
3[Option ID=6951]
4[Option ID=6952]

SI. No.92

QBID:12846167

Kaantha Art is related to which Material ?

- (1) Paper
- (2) Textile
- (3) Wood
- (4) Ceramics

काँथा कला निम्नलिखित में से किस पदार्थ से संबंधित है?

- (1) कागज (पेपर)
- (2) वस्त्र
- (3) काष्ठ
- (4) चीनी मिट्टी

- 1[Option ID=6953]
2[Option ID=6954]
3[Option ID=6955]
4[Option ID=6956]

SI. No.93

QBID:12846168

Warli paintings are related to the tribal of which state ?

- (1) Andaman & Nikobar island
- (2) Orissa
- (3) Maharashtra

(4) Chattisgarha

वर्ली पेंटिग्स निम्नलिखित में से किस राज्य की जनजाति से संबंधित हैं?

- (1) अंडमान और निकोबार द्वीपसमूह
- (2) ओडीशा
- (3) महाराष्ट्र
- (4) छत्तीसगढ़

1[Option ID=6957]

2[Option ID=6958]

3[Option ID=6959]

4[Option ID=6960]

Sl. No.94

QBID:12846169

The Indian Emblem “Lion Capital” was excavated from which site ?

- (1) Sanchi
- (2) Bharhuth
- (3) Amarawati
- (4) Sarnath

भारतीय प्रतीक 'सिंहशीर्ष' किस स्थल से उत्खनित किया गया था?

- (1) सांची
- (2) भरहुत
- (3) अमरावती
- (4) सारनाथ

1[Option ID=6961]

2[Option ID=6962]

3[Option ID=6963]

4[Option ID=6964]

Sl. No.95

QBID:12846170

“Parkham Yaksha” is a proud collection of which museum ?

- (1) Mathura Museum
- (2) National Museum
- (3) Indian Museum
- (4) Madras Museum

'पार्खम यक्ष' किस संग्रहालय का शानदार संग्रह है?

- (1) मथुरा संग्रहालय
- (2) राष्ट्रीय संग्रहालय
- (3) भारतीय संग्रहालय
- (4) मद्रास संग्रहालय

1[Option ID=6969]

2[Option ID=6970]

3[Option ID=6971]
4[Option ID=6972]

Sl. No.96

QBID:12846171

Bairath Inscription of Ashoka is now in collection of which of the following?

- (1) National Museum
- (2) C.S.M.V.S
- (3) Indian Museum
- (4) Site Museum, Bairath

अशोका बैराठ अभिलेख अब निम्नलिखित में से किसके संग्रह का भाग है?

- (1) राष्ट्रीय संग्रहालय
- (2) सी.एस.एम.वी. एस.
- (3) भारतीय संग्रहालय
- (4) स्थल संग्रहालय, बैराठ

1[Option ID=6973]

2[Option ID=6974]

3[Option ID=6975]

4[Option ID=6976]

Sl. No.97

QBID:12846172

Didarganj Yakshi is a proud example of which art?

- (1) Shunga Art
- (2) Satvahana Art
- (3) Mauryan Art
- (4) Kushana Art

दीदारगंज यक्षी निम्नलिखित में से किस कला का शानदार उदाहरण है?

- (1) शुंगकला
- (2) सातवाहन कला
- (3) मौर्य कला
- (4) कुषाण कला

1[Option ID=6977]

2[Option ID=6978]

3[Option ID=6979]

4[Option ID=6980]

Sl. No.98

QBID:12846173

Which of the following monuments is inscribed on the UNESCO list of world Heritage site :

- (1) Ajanta Caves
- (2) Tomb of Itamadudaulah
- (3) Dilwara Temples
- (4)

Safdarjung Tomb

यूनेस्को की विश्व धरोहर (विरासत) स्थल की सूची में निम्नलिखित में से किस स्मारक का नाम अंकित है?

- (1) अजंता गुफाएँ
- (2) एत्मादुदौला का मकबरा
- (3) दिलवाड़ा मंदिर
- (4) सफ़दरजंग मकबरा

1[Option ID=6981]

2[Option ID=6982]

3[Option ID=6983]

4[Option ID=6984]

SI. No.99

QBID:12846174

Kalighat Paintings are related to which state of India ?

- (1) West Bengal
- (2) Rajasthan
- (3) Orissa
- (4) Madhya Pradesh

कालीघाट पेंटिंग्स भारत के किस राज्य से संबंधित हैं?

- (1) पश्चिम बंगाल
- (2) राजस्थान
- (3) ओडीशा
- (4) मध्य प्रदेश

1[Option ID=6985]

2[Option ID=6986]

3[Option ID=6987]

4[Option ID=6988]

SI. No.100

QBID:12846175

Bhimbetka Rock Shelters are situated in which of the following State of India?

- (1) Orissa
- (2) Bihar
- (3) Madhya Pradesh
- (4) Rajasthan

भीमबेटका शैलाश्रय निम्नलिखित में से किस राज्य में स्थित है?

- (1) ओडीशा
- (2) बिहार
- (3) मध्य प्रदेश
- (4) राजस्थान

1[Option ID=6989]

2[Option ID=6990]

3[Option ID=6991]

4[Option ID=6992]