



Test Date : 04 Sep 2022

Test Slot : Slot 2

Subject : PGQP15-Sociology

Sl. No.1

QBID:1007176

Choose the correct form of verb to fill in the blank.

The price of oranges _____ rising in the market.

- (1) are (2) have
(3) is (4) had

- (1) 1
(2) 2
(3) 3
(4) 4

निम्नलिखित में कौन-सा शब्द-रूप अशुद्ध है?

- (1) टोपी (2) टोपियाँ
(3) टोपियें (4) टोपियों

- (1) 1
(2) 2
(3) 3
(4) 4

1[Option ID=11201]

2[Option ID=11202]

3[Option ID=11203]

4[Option ID=11204]

Sl. No.2

QBID:1007177

From among the four options given, choose the most appropriate sequence for the four phrases given below to make a meaningful sentence :

- (A) wages were going to be cut and
- (B) the workers were up in
- (C) decided to go on strike
- (D) arms when they heard that their

Choose the correct answer from the options given below:

- (1) (D), (A), (C), (B)
- (2) (B), (D), (A), (C)
- (3) (C), (B), (D), (A)
- (4) (A), (C), (B), (D)

- (1) 1
- (2) 2
- (3) 3
- (4) 4

निम्नलिखित वाक्यांशों को उचित क्रमानुसार व्यवस्थित कीजिए :

- (A) अपना इष्टदेव मानते हैं
 - (B) श्री कृष्ण को
 - (C) वैष्णवधर्म का
 - (D) लोग
 - (E) एक और भेद है कि
- (1) C E D B A
 - (2) A B C D E
 - (3) B C D E A
 - (4) C D A B E

- (1) 1
- (2) 2
- (3) 3
- (4) 4

- 1[Option ID=11205]
- 2[Option ID=11206]
- 3[Option ID=11207]
- 4[Option ID=11208]

Sl. No.3
QBID:1007178

Which two of the following words take 'irregular' verb forms?

- (A) begin
- (B) defy
- (C) manage
- (D) bite

Choose the correct answer from the options given below:

- (1) (A) and (D) only
- (2) (A) and (B) only
- (3) (B) and (C) only
- (4) (B) and (D) only

- (1) 1
- (2) 2
- (3) 3
- (4) 4

“हम किताब पढ़ते रहेंगे”। में प्रयुक्त क्रिया से क्या अर्थ सूचित होता है?

- (1) संभावना
- (2) निश्चय
- (3) संकेत
- (4) संदेह

- (1) 1
- (2) 2
- (3) 3
- (4) 4

- 1[Option ID=11209]
- 2[Option ID=11210]
- 3[Option ID=11211]
- 4[Option ID=11212]

Sl. No.4
QBID:1007179

Match List I with List II :

List I (word)	List II (synonym)
(A) accolades	(I) show
(B) desultory	(II) honour
(C) evince	(III) guess
(D) surmise	(IV) aimless

Choose the correct answer from the options given below :

- (1) (A)-(IV), (B)-(III), (C)-(II), (D)-(I)
- (2) (A)-(I), (B)-(II), (C)-(III), (D)-(IV)
- (3) (A)-(II), (B)-(IV), (C)-(I), (D)-(III)
- (4) (A)-(III), (B)-(I), (C)-(IV), (D)-(II)

- (1) 1
- (2) 2
- (3) 3
- (4) 4

नीचे दो कथन दिए गए हैं : एक अभिकथन (Assertion (A) के रूप में लिखित है तो दूसरा उसके कारण (Reasons (R) के रूप में :

अभिकथन (A) : 'वह चलता है'। सामान्य वर्तमान काल का वाक्य है।

कारण (R) : सामान्य वर्तमान काल से कार्य को पूर्णता का बोध होता है।

उपरोक्त कथन के आलोक में, नीचे दिए गए विकल्पों में से सबसे उपयुक्त उत्तर का चयन कीजिए

- (1) (A) और (R) दोनों सही हैं और (R), (A) की सही व्याख्या है
- (2) (A) और (R) दोनों सही हैं, लेकिन (R), (A) की सही व्याख्या नहीं है
- (3) (A) सही है, लेकिन (R) सही नहीं है
- (4) (A) सही नहीं है, लेकिन (R) सही है

- (1) 1
- (2) 2
- (3) 3
- (4) 4

3[Option ID=11215]

4[Option ID=11216]

Sl. No.5

QBID:1007180

Pick out the correctly spelt word.

- | | |
|-------------|--------------|
| (1) twelth | (2) twelfthe |
| (3) twelfth | (4) towelfth |

(1) 1

(2) 2

(3) 3

(4) 4

सूची-I के साथ का सूची-II मिलान कीजिए :

सूची-I	सूची-II
(A) बड़ा भाई	(I) अनिर्वचनीय
(B) जिसके बारे में कुछ कहा न जा सके	(II) परोपकारी
(C) जिसके मन में दया न हो	(III) अग्रज
(D) दूसरों का उपकार करने वाला	(IV) निर्दयी

नीचे दिए गए विकल्पों में से सही उत्तर का चयन कीजिए :

- (1) (A)-(I), (B)-(II), (C)-(III), (D)-(IV)
- (2) (A)-(IV), (B)-(III), (C)-(II), (D)-(I)
- (3) (A)-(III), (B)-(I), (C)-(II), (D)-(IV)
- (4) (A)-(III), (B)-(I), (C)-(IV), (D)-(II)

(1) 1

(2) 2

(3) 3

(4) 4

1[Option ID=11217]

2[Option ID=11218]

3[Option ID=11219]

4[Option ID=11220]

Sl. No.6

QBID:1007181

“The peace talks between the Russia and Ukraine ended in a *stalemate*.”

From the following options pick the correct synonym of the word in italics.

- | | |
|---------------|------------------|
| (1) Agreement | (2) Dilemma |
| (3) Impasse | (4) Disagreement |

- (1) 1
- (2) 2
- (3) 3
- (4) 4

निम्नलिखित में अधिकरण कारक के वाक्य हैं

- (A) हे प्रभु, हमारी रक्षा करो।
- (B) नौकर काम पर है।
- (C) आश्विन, तुम कहाँ गए थे?
- (D) हममें तुममें कोई भेद नहीं है।
- (E) अनन्य का घर एक कोस पर है।

नीचे दिए गए विकल्पों में से सही उत्तर का चयन कीजिए :

- (1) (A), (B) और (C)
- (2) (B), (C) और (D)
- (3) (B), (C) और (E)
- (4) (B), (D) और (E)

- (1) 1
- (2) 2
- (3) 3
- (4) 4

1[Option ID=11221]
2[Option ID=11222]
3[Option ID=11223]
4[Option ID=11224]

Sl. No.7
QBID:1007182

Identify the correct direct speech of the following sentence.

Arshil said that he was very busy then.

- (1) Arshil said, "He is very busy now."
- (2) Arshil told, "I am very busy now."
- (3) Arshil said, "You are very busy now."
- (4) Arshil said, "I am very busy now."

- (1) 1
- (2) 2
- (3) 3
- (4) 4

नीचे दो कथन दिए गए हैं :

कथन I : विशेष अर्थ में निरर्थक ध्वनि भी शब्द कही जाती है।

कथन II : जैसे लड़का 'बा' कहता है। निरर्थक होते हुए भी 'बा' एक शब्द है।

उपरोक्त कथन के आलोक में, नीचे दिए गए विकल्पों में से सबसे उपयुक्त उत्तर का चयन कीजिए :

- (1) कथन I और II दोनों सही हैं
- (2) कथन I और II दोनों गलत हैं
- (3) कथन I सही है, लेकिन कथन II गलत है
- (4) कथन I गलत है, लेकिन कथन II सही है

- (1) 1
- (2) 2
- (3) 3
- (4) 4

1[Option ID=11225]
2[Option ID=11226]
3[Option ID=11227]
4[Option ID=11228]

Sl. No.8
QBID:1007183

Which of the following is a one-word substitute for 'a person who is unsure about God's existence'?

- (1) Renegade
- (2) Atheist
- (3) Irreligious
- (4) Agnostic

- (1) 1
- (2) 2
- (3) 3
- (4) 4

नीचे दो कथन दिए गए हैं :

कथन I : 'ऊपर की आमदनी' मुहावरे का अर्थ है - इधर-उधर से घूस आदि के द्वारा प्राप्त धन।

कथन II : निर्धारित कार्यावधि के बाद अतिरिक्त कार्य के एवज में मिलने वाले धन को भी ऊपर की कमाई कहते हैं।

उपरोक्त कथन के आलोक में, नीचे दिए गए विकल्पों में से सबसे सही उत्तर का चयन कीजिए :

- (1) कथन I और II दोनों सत्य हैं
- (2) कथन I और II दोनों असत्य हैं
- (3) कथन I सत्य है, लेकिन कथन II असत्य है
- (4) कथन I असत्य है, लेकिन कथन II सत्य है

(1) 1

(2) 2

(3) 3

(4) 4

1[Option ID=11229]

2[Option ID=11230]

3[Option ID=11231]

4[Option ID=11232]

SI. No.9

QBID:1007184

Choose the correct passive voice of the following sentence.

I was waiting for the minister.

- (1) The minister was being waited for by me.
- (2) The minister was waited by me.
- (3) The minister was waiting for me.
- (4) The minister had been waiting.

(1) 1

(2) 2

(3) 3

(4) 4

निम्नलिखित में से कौन स्त्री के समानार्थी शब्द है?

- (A) प्रियंगु
- (B) नारि
- (C) प्रेयसी
- (D) औरत
- (E) वामा

नीचे दिए गए विकल्पों में से सही उत्तर का चयन कीजिए :

- (1) केवल (A), (B) और (C)
- (2) केवल (B), (C) और (D)
- (3) केवल (B), (D) और (E)
- (4) केवल (C), (D) और (E)

(1) 1

(2) 2

(3) 3

(4) 4

1[Option ID=11233]

2[Option ID=11234]

3[Option ID=11235]

4[Option ID=11236]

Sl. No.10

QBID:1007185

Fill up the blank with the correct form of verb.

Neither food nor water _____ available there.

- (1) were
- (2) will not be
- (3) was
- (4) have being

(1) 1

(2) 2

(3) 3

(4) 4

निम्नलिखित में कौन से विपरीतार्थक शब्द युग्म शुद्ध हैं?

- (A) खालिस-निखालिस
- (B) बाजिब-गैरबाजिब
- (C) गंभीर-गैरगंभीर
- (D) चेत-अचेत
- (E) हाजिर-गैर हाजिर

नीचे दिए गए विकल्पों में से सही उत्तर का चयन कीजिए :

- (1) केवल (A), (B) और (C)
- (2) केवल (B), (C) और (D)
- (3) केवल (B), (D) और (E)
- (4) केवल (C), (D) और (E)

(1) 1

(2) 2

(3) 3

(4) 4

1[Option ID=11237]

2[Option ID=11238]

3[Option ID=11239]

4[Option ID=11240]

Sl. No.11

QBID:1007186

The notification declaring the minority communities / groups is done by :

- (1) The Parliament
- (2) The State Governments
- (3) The Central Government
- (4) Concurrently by State and Central Governments

(1) 1

(2) 2

(3) 3

(4) 4

अल्पसंख्यक समुदायों। समूहों को घोषित करने वाली अधिसूचना कौन जारी करता है?

- (1) संसद
- (2) राज्य सरकारें
- (3) केन्द्रीय सरकार
- (4) केन्द्र और राज्य सरकारों द्वारा साथ-साथ

(1) 1

(2) 2

(3) 3

(4) 4

1[Option ID=11241]

2[Option ID=11242]

3[Option ID=11243]

4[Option ID=11244]

Sl. No.12

QBID:1007187

The first image of a black hole captured by Event Horizon Telescope (ETH) has been named as :

- | | |
|---------------------------|----------------------------|
| (1) Stephen Hawking BH*AB | (2) SYr*A |
| (3) Messier 87 | (4) Eienstien Galaxy BH*88 |

(1) 1

(2) 2

(3) 3

(4) 4

इवेंट हारिजान टेलिस्कोप (ETH) द्वारा किसी कृष्ण-विवर (ब्लैक होल) के खींचे गए पहले प्रतिबिम्ब का क्या नाम है?

- | | |
|---------------------------|------------------------------|
| (1) स्टीफन हार्किंग BH*AB | (2) SYr*A |
| (3) मेसियर 87 | (4) आइन्स्टीन गैलेक्सी BH*88 |

(1) 1

(2) 2

(3) 3

(4) 4

1[Option ID=11245]

2[Option ID=11246]

3[Option ID=11247]

4[Option ID=11248]

Sl. No.13

QBID:1007188

The dance form which uses Jayadeva's Gita Govinda in an extensive manner is called :

- | | |
|---------------|------------|
| (1) Kuchipudi | (2) Chau |
| (3) Manipuri | (4) Odissi |

- (1) 1
- (2) 2
- (3) 3
- (4) 4

जयदेव के 'गीत-गोविन्द' का व्यापक ढंग से उपयोग करने वाली नाट्य-कला का क्या नाम है?

- (1) कुचिपुडी
- (2) छाऊ
- (3) मणिपुरी
- (4) औडिसी

- (1) 1
- (2) 2
- (3) 3
- (4) 4

1[Option ID=11249]
2[Option ID=11250]
3[Option ID=11251]
4[Option ID=11252]

Sl. No.14
QBID:1007189

The celebration of National Press Day on November 16 in India was started by :

- (1) Press Council of India
- (2) Ministry of Information and Broadcasting
- (3) United Nations
- (4) National Press Club

- (1) 1
- (2) 2
- (3) 3
- (4) 4

16 नवम्बर को राष्ट्रीय प्रेस दिवस के रूप में मनाने की शुरुआत किसने की थी?

- (1) भारतीय प्रेस परिषद
- (2) सूचना और प्रसारण मंत्रालय
- (3) संयुक्त राष्ट्र
- (4) राष्ट्रीय प्रेस क्लब

- (1) 1
- (2) 2
- (3) 3
- (4) 4

1[Option ID=11253]
2[Option ID=11254]
3[Option ID=11255]
4[Option ID=11256]

Sl. No.15

QBID:1007190

Shyam Benegal's Committee was set up in 2016 for :

- (1) clearing the backlog of films for certification
- (2) regulating the adult films
- (3) develop a strategy for promotion of children's films
- (4) laying down rules for film certification

(1) 1

(2) 2

(3) 3

(4) 4

2016 में श्याम बेनेगल समिति किस लिए बनाई गई थी?

- (1) प्रमाणन के लिए पहले से बची हुई फिल्मों का प्रमाणन कार्य समाप्त करना
- (2) वयस्क फिल्मों को विनियमित करना
- (3) बाल-फिल्मों को प्रोत्साहित करने के लिए रणनीति विकसित करना
- (4) फिल्म-प्रमाणन के लिए नियम बनाना

(1) 1

(2) 2

(3) 3

(4) 4

1[Option ID=11257]

2[Option ID=11258]

3[Option ID=11259]

4[Option ID=11260]

Sl. No.16

QBID:1007191

If South - East becomes North - West then what will South - West become?

- | | |
|------------------|------------------|
| (1) North - West | (2) South |
| (3) North | (4) North - East |

(1) 1

(2) 2

(3) 3

(4) 4

यदि दक्षिण-पूर्व उत्तर-पश्चिम हो जाय तो दक्षिण-पश्चिम क्या होगा ?

- | | |
|------------------|-----------------|
| (1) उत्तर-पश्चिम | (2) दक्षिण |
| (3) उत्तर | (4) उत्तर-पूर्व |

(1) 1

(2) 2

(3) 3

(4) 4

1[Option ID=11261]

2[Option ID=11262]

3[Option ID=11263]

4[Option ID=11264]

Sl. No.17

QBID:1007192

In the question below statement and assumptions are given. Consider the statement and choose the correct option from the following on the basis of the assumptions.

Statement :

Area welfare society requested the local administration to allow them for converting vacant land into vehicle parking area at their own cost.

Assumptions :

- (i) The local authorities shall be happy to give permission.
 - (ii) The welfare society shall be able to collect funds to convert the land into vehicle parking area.
- (1) Only (i) is implicit
 - (2) Only (ii) is implicit
 - (3) Both (i) and (ii) are implicit
 - (4) Neither (i) nor (ii) is implicit

(1) 1

(2) 2

(3) 3

(4) 4

नीचे दिए गए प्रश्न एक वक्तव्य और पूर्व-धारणाएं दी गई हैं। पूर्व-धारणाओं के आधार पर वक्तव्य पर विचार कीजिए और नीचे दिए गए विकल्पों में से सही विकल्प का चयन कीजिए।

वक्तव्य :

एरिया वेलफेयर सोसाइटी ने स्थानीय प्रशासन से निवेदन किया कि उन्हें अपने खर्चे पर एक खाली जमीन को गाड़ियों की कार्पिंग क्षेत्र बनाने की अनुमति दी जाय।

पूर्व-धारणाएं :

- (i) स्थानीय अधिकारी अनुमति देकर प्रसन्न होंगे।
 - (ii) खाली जमीन को गाड़ी-पार्किंग क्षेत्र में बदलने के लिए वेलफेयर सोसाइटी धन-संग्रह करने में सक्षम होगी।
- (1) केवल (i) शंका-रहित है।
 - (2) केवल (ii) शंका-रहित है।
 - (3) दोनों (i) और (ii) शंका रहित हैं।
 - (4) न तो (i) और न ही (ii) शंका रहित है।

- (1) 1
- (2) 2
- (3) 3
- (4) 4

1[Option ID=11265]
2[Option ID=11266]
3[Option ID=11267]
4[Option ID=11268]

Sl. No.18
QBID:1007193

Question below consists of a statement and two arguments. Decide which argument is strong and which is a weak argument.

Statement :

Should ban on hunting of tigers in forests be lifted?

Arguments :

Yes, the ban is not effective as tigers are still being killed.

No, the tigers will start roaming in the city.

- (1) Only (i) is strong argument.
- (2) Only (ii) is strong argument.
- (3) Neither (i) nor (ii) are strong arguments.
- (4) Both (i) and (ii) are strong arguments.

- (1) 1
- (2) 2
- (3) 3
- (4) 4

नीचे लिखे प्रश्न में एक वक्तव्य और दो तर्क हैं। निर्णय कीजिए कि कौन सा तर्क प्रबल है और कौन सा तर्क दुर्बल है?

वक्तव्य :

क्या वनों में बाघों के शिकार पर लगा प्रतिबन्ध हटा दिया जाना चाहिए?

तर्क :

- (i) हाँ, प्रतिबन्ध प्रभावकारी नहीं है क्योंकि बाघ अभी भी मारे जा रहे हैं।
 - (ii) नहीं, बाघ शहर में घूमना शुरु कर देंगे।
- (1) केवल (i) प्रबल तर्क है।
 - (2) केवल (ii) प्रबल तर्क है।
 - (3) न तो (i) और न ही (ii) प्रबल तर्क है।
 - (4) दोनों (i) और (ii) प्रबल तर्क हैं।

- (1) 1
- (2) 2
- (3) 3
- (4) 4

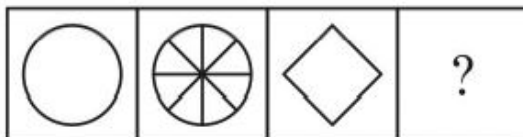
1[Option ID=11269]
 2[Option ID=11270]
 3[Option ID=11271]
 4[Option ID=11272]

Sl. No.19
 QBID:1007194

Select a suitable figure from the answer.

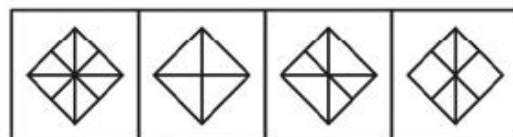
Figures that would replace the question mark (?).

Problem Figures :



(A) (B) (C) (D)

Answer Figures :



(1) (2) (3) (4)

- (1) 1
- (2) 2
- (3) 3
- (4) 4

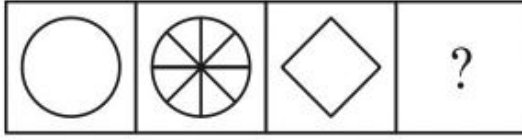
- (1) 1
- (2) 2

(3) 3

(4) 4

उत्तर-आकृतियों में से एक उचित आकृति का चुनाव कीजिए जो प्रश्नवाचक चिह्न (?) का स्थान ले सके।

प्रश्न - आकृतियाँ



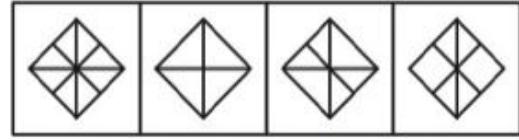
(A)

(B)

(C)

(D)

उत्तर - आकृतियाँ



(1)

(2)

(3)

(4)

(1) 1

(3) 3

(2) 2

(4) 4

(1) 1

(2) 2

(3) 3

(4) 4

1[Option ID=11273]

2[Option ID=11274]

3[Option ID=11275]

4[Option ID=11276]

SI. No.20

QBID:1007195

Pointing towards Mary, John said 'Only daughter of Father-in-law of her brother's mother is my wife'. How is John related to Mary?

(1) Brother

(2) Uncle

(3) Father

(4) Data Insufficient

(1) 1

(2) 2

(3) 3

(4) 4

मेरी की ओर संकेत करते हुए जॉन बोला, "उसके भाई की मां के ससुर की एकमात्र पुत्री मेरी पत्नी है"। जॉन का मेरी से क्या सम्बन्ध है?

(1) भाई

(2) चाचा

(3) पिता

(4) सूचना अपर्याप्त है।

(1) 1

(2) 2

(3) 3

(4) 4

1[Option ID=11277]

2[Option ID=11278]

3[Option ID=11279]
4[Option ID=11280]

SI. No.21
QBID:1007196

A shop stores x kg of rice. The first customer buys half this amount plus half a kg of rice. The second customer buys half the remaining amount plus half a kg of rice. Then the third customer also buys half the remaining amount plus half a kg of rice. Thereafter, no rice is left in the shop. Which of the following best describes the value of x ?

- (1) $2 \leq x \leq 6$ (2) $5 \leq x \leq 8$
(3) $9 \leq x \leq 12$ (4) $11 \leq x \leq 14$

- (1) 1
(2) 2
(3) 3
(4) 4

एक दुकान में चावल का x किग्रा भंडार है। पहला ग्राहक इस मात्रा का आधा तथा आधा किग्रा चावल और खरीदता है। दूसरा ग्राहक बची हुयी मात्रा का आधा तथा आधा किग्रा चावल और खरीदता है। तीसरा ग्राहक भी बची हुयी मात्रा का आधा तथा आधा किग्रा चावल और खरीदता है। इसके पश्चात दुकान में कुछ भी चावल नहीं बचता है। निम्न में x का मान कौन सबसे सही वर्णित करता है?

- (1) $2 \leq x \leq 6$ (2) $5 \leq x \leq 8$
(3) $9 \leq x \leq 12$ (4) $11 \leq x \leq 14$

- (1) 1
(2) 2
(3) 3
(4) 4

1[Option ID=11281]
2[Option ID=11282]
3[Option ID=11283]
4[Option ID=11284]

SI. No.22
QBID:1007197

There are two circles of different radius such that radius of the smaller circle is two-fifth that of the larger circle. A square whose area equals 5184 sq cm has its side as thrice the radius of the larger circle. What is the circumference of the smaller circle?

- (1) 65.25 cm (2) 60.34 cm
(3) 49.34 cm (4) 54.23 cm

- (1) 1
(2) 2

(3) 3

(4) 4

भिन्न त्रिज्यो वाले दो वृत्तो के छोटे वृत्त की त्रिज्या बड़े वृत्त की त्रिज्या का $\frac{2}{5}$ वाँ भाग है। एक वर्ग जिसका क्षेत्रफल 5184 वर्ग सेमी है की गुणा बड़े वृत्त की त्रिज्या का तीन गुना है। छोटे वृत्त का परिमाण क्या है?

(1) 65.25 सेमी

(2) 60.34 सेमी

(3) 49.34 सेमी

(4) 54.23 सेमी

(1) 1

(2) 2

(3) 3

(4) 4

1[Option ID=11285]

2[Option ID=11286]

3[Option ID=11287]

4[Option ID=11288]

Sl. No.23

QBID:1007198

Ramesh purchased a house worth Rs. 10,00,000 and Amrita purchased a car worth Rs. 16,00,000. The value of house every year increases by 20% of the previous value and the value of car depreciates every year by 25%. What is the difference between the price of house and car after 3 years?

(1) 10,63,000

(2) 10,53,000

(3) 10,43,000

(4) 11,53,000

(1) 1

(2) 2

(3) 3

(4) 4

रमेश ने रु. 10,00,000 का एक घर खरीदा तथा अमृता ने रु. 16,00,000 की एक कार खरीदी। प्रत्येक वर्ष घर की कीमत पिछले वर्ष की कीमत का 20% बढ़ती है और कार की कीमत पिछले वर्ष की कीमत का 25% घटती है। तीन वर्ष बाद घर तथा कार की कीमतों का अन्तर क्या है?

(1) 10,63,000

(2) 10,53,000

(3) 10,43,000

(4) 11,53,000

(1) 1

(2) 2

(3) 3

(4) 4

1[Option ID=11289]

2[Option ID=11290]

3[Option ID=11291]

4[Option ID=11292]

Sl. No.24

QBID:1007199

Vivek had ₹. 23,000. He invested some amount in scheme A at SI at 20% and the remaining amount in scheme B at CI at 10%. If Vivek got the same amount from both of them at the end of one year, how much (in ₹) did he invest in scheme B?

- (1) ₹. 12,000 (2) ₹. 13,000
(3) ₹. 11,800 (4) ₹. 12,500

- (1) 1
(2) 2
(3) 3
(4) 4

विवेक के पास ₹. 23,000 हैं। उसने कुछ राशि परियोजना A में 20% साधारण ब्याज पर तथा शेष राशि परियोजना B में 10% चक्रवृद्धि ब्याज पर निवेश किया यदि विवेक को एक वर्ष बाद दोनों योजनाओं के समान राशि मिली, उसने परियोजना B में कितनी राशि का निवेश किया?

- (1) ₹. 12,000 (2) ₹. 13,000
(3) ₹. 11,800 (4) ₹. 12,500

- (1) 1
(2) 2
(3) 3
(4) 4

- 1[Option ID=11293]
2[Option ID=11294]
3[Option ID=11295]
4[Option ID=11296]

SI. No.25
QBID:1007200

Peter marks up all Jeans in his shop 20% higher. He gave 25% discount on $\frac{2}{5}$ th of the total Jeans and 12% discount on $\frac{1}{4}$ th of the total Jeans. If Peter gets an overall profit of 2.3%, then what percentage of discount should be given by Peter to customers on the remaining Jeans?

- (1) 10% (2) 2%
(3) 3% (4) 5%

- (1) 1
(2) 2
(3) 3
(4) 4

पीटर अपनी दुकान में सभी जीन्स की कीमत 20% ज्यादा अंकित करता है। उसने कुछ जीन्स के $\frac{2}{5}$ वें भाग पर 25% छूट तथा कुल जीन्स के $\frac{1}{4}$ वें भाग पर 12% की छूट दी। यदि पीटर को कुल लाभ 2.3% प्राप्त होता है। तब शेष जीन्स पर ग्राहक को कितने प्रतिशत की छूट दी जानी चाहिए?

- (1) 10% (2) 2%
(3) 3% (4) 5%

- (1) 1
- (2) 2
- (3) 3
- (4) 4

1[Option ID=11297]
2[Option ID=11298]
3[Option ID=11299]
4[Option ID=11300]

Sl. No.26
QBID:1019001

The study of Science of Man and his Works is studied in

- (1) History
- (2) Anthropology
- (3) Sociology
- (4) Psychology

- (1) 1
- (2) 2
- (3) 3
- (4) 4

मनुष्य और उसके कार्यों के विज्ञान का अध्ययन किस क्षेत्र में किया जाता है ?

- (1) इतिहास
- (2) मानवशास्त्र
- (3) समाज शास्त्र
- (4) मनोविज्ञान

- (1) 1
- (2) 2
- (3) 3
- (4) 4

1[Option ID=12501]
2[Option ID=12502]
3[Option ID=12503]
4[Option ID=12504]

Sl. No.27
QBID:1019002

The social process through which children develop an awareness of social norms and values and achieve a distinct sense of self is known as

- (1) Education
- (2) Formal Education
- (3) Socialization
- (4) School Education

- (1) 1
- (2) 2
- (3) 3

(4) 4

सामाजिक प्रक्रिया, जिसके माध्यम से बच्चे सामाजिक नियमों और मूल्यों के प्रति जागरूकता को विकसित करते हैं और स्वयं की एक विशिष्ट भावना को विकसित करते हैं, इनमें से क्या कहलाती है ?

- (1) शिक्षा
- (2) औपचारिक शिक्षा
- (3) समाजीकरण
- (4) स्कूली शिक्षा

(1) 1

(2) 2

(3) 3

(4) 4

1[Option ID=12505]

2[Option ID=12506]

3[Option ID=12507]

4[Option ID=12508]

Sl. No.28

QBID:1019003

The social honour or prestige accorded to a person or a particular group by other members of society is known as

- (1) Stigma
- (2) Status
- (3) Status set
- (4) Pattern behaviour

(1) 1

(2) 2

(3) 3

(4) 4

समाज के अन्य सदस्यों द्वारा किसी व्यक्ति या विशिष्ट समूह को प्रदान किए जाने वाले सामाजिक सम्मान और प्रतिष्ठा को क्या कहते हैं ?

- (1) लांछन
- (2) प्रतिष्ठा (स्टेटस)
- (3) प्रतिष्ठा समूह (स्टेटस सेट)
- (4) प्रतिरूप व्यवहार

(1) 1

(2) 2

(3) 3

(4) 4

- 1[Option ID=12509]
2[Option ID=12510]
3[Option ID=12511]
4[Option ID=12512]

Sl. No.29

QBID:1019004

From the following who was the founder of Psychoanalysis?

- (1) Herbert Mead
- (2) Charles Cooley
- (3) Sigmund Freud
- (4) Karl Marx

- (1) 1
- (2) 2
- (3) 3
- (4) 4

निम्नलिखित में से कौन मनोविश्लेषण के जनक थे ?

- (1) हर्बर्ट मीड
- (2) चार्ल्स कूले
- (3) सिगमंड फ्रॉयड
- (4) कार्ल मार्क्स

- (1) 1
- (2) 2
- (3) 3
- (4) 4

- 1[Option ID=12513]
2[Option ID=12514]
3[Option ID=12515]
4[Option ID=12516]

Sl. No.30

QBID:1019005

Who said that self is a social self which requires a sociological perspective if we are to understand how self emerges and develops?

- (1) Sigmund Freud
- (2) George Herbert Mead
- (3) Jean Piaget
- (4) Lev Vygotsky

- (1) 1
- (2) 2
- (3) 3
- (4) 4

यह किसने कहा था कि आत्म, सामाजिक-आत्म है, जिसके लिए समाजशास्त्रीय परिदृश्य की आवश्यकता है, यदि हमें यह जानना है कि आत्म कैसे उत्पन्न और विकसित होता है ?

- (1) सिगमंड फ्रायड
- (2) जॉर्ज हर्बर्ट मीड
- (3) ज्यां पियाजे
- (4) लिव वाइगोत्सकी

(1) 1

(2) 2

(3) 3

(4) 4

1[Option ID=12517]

2[Option ID=12518]

3[Option ID=12519]

4[Option ID=12520]

Sl. No.31

QBID:1019006

The process of localization of tradition or reduction to less systematic and less reflective dimensions is referred to as

- (1) Universalization
- (2) Parochialization
- (3) Globalization
- (4) Sanskritization

(1) 1

(2) 2

(3) 3

(4) 4

परम्पराओं के स्थानीयकरण की प्रक्रिया या कम व्यवस्थित और कम चिन्तनशील आयामों की प्रक्रिया को क्या कहते हैं ?

- (1) सार्वभौमिकरण
- (2) संकीर्णीकरण
- (3) वैश्वीकरण
- (4) सांस्कृतीकरण

(1) 1

(2) 2

(3) 3

(4) 4

1[Option ID=12521]

2[Option ID=12522]

3[Option ID=12523]

4[Option ID=12524]

Sl. No.32

QBID:1019007

Which of the following approaches gives more importance to the maintenance of order in society?

- (1) Functionalism
- (2) Conflict Theory
- (3) Interactionism
- (4) Positivism

(1) 1

(2) 2

(3) 3

(4) 4

निम्नलिखित में से कौन-सा उपागम समाज में व्यवस्था बनाए रखने को अधिक महत्त्व देता है ?

- (1) प्रकार्यवाद
- (2) संघर्ष का सिद्धांत
- (3) अन्योन्यक्रियावाद
- (4) प्रत्यक्षवाद

(1) 1

(2) 2

(3) 3

(4) 4

1[Option ID=12525]

2[Option ID=12526]

3[Option ID=12527]

4[Option ID=12528]

Sl. No.33

QBID:1019008

The Pre-Natal Diagnostic Techniques Act was passed in the year

- (1) 2004
- (2) 1994
- (3) 1984
- (4) 2000

(1) 1

(2) 2

(3) 3

(4) 4

प्रसव पूर्व-नैदानिक तकनीकी अधिनियम को किस वर्ष में पारित किया गया था ?

- (1) 2004
- (2) 1994
- (3) 1984
- (4) 2000

- (1) 1
- (2) 2
- (3) 3
- (4) 4

1[Option ID=12529]
2[Option ID=12530]
3[Option ID=12531]
4[Option ID=12532]

Sl. No.34
QBID:1019009

According to Durkheim, excessive regulation may result in _____ type of suicide.

- (1) Egoistic
- (2) Altruistic
- (3) Anomic
- (4) Fatalistic

- (1) 1
- (2) 2
- (3) 3
- (4) 4

दुर्खाइम के अनुसार, अत्यधिक विनियमन के परिणामस्वरूप _____ प्रकार की आत्मघात होती है ।

- (1) अहंवादी
- (2) परहितवादी
- (3) अप्रतिमानित
- (4) भाग्यवादी

- (1) 1
- (2) 2
- (3) 3
- (4) 4

1[Option ID=12533]
2[Option ID=12534]
3[Option ID=12535]
4[Option ID=12536]

Sl. No.35
QBID:1019010

An economic boom, according to Durkheim, might result in _____ suicides.

- (1) Egoistic
- (2) Altruistic
- (3) Anomic
- (4) Fatalistic

(1) 1

(2) 2

(3) 3

(4) 4

दुर्खाइम के अनुसार, आर्थिक तेजी के परिणामस्वरूप _____ प्रकार की आत्मघात हो सकती है ।

- (1) अहंवादी
- (2) परहितवादी
- (3) अप्रतिमानित
- (4) भाग्यवादी

(1) 1

(2) 2

(3) 3

(4) 4

1[Option ID=12537]

2[Option ID=12538]

3[Option ID=12539]

4[Option ID=12540]

SI. No.36

QBID:1019011

According to Comte, during the _____, thought and explanation developed based on science and empirical experimentation.

- (1) Theological stage
- (2) Metaphysical stage
- (3) Positive stage
- (4) Dynamic stage

(1) 1

(2) 2

(3) 3

(4) 4

काम्टे के अनुसार, _____ के दौरान, विचार और स्पष्टीकरण, विज्ञान और अनुभवजन्य प्रयोग के आधार पर विकसित होते हैं ।

- (1) धार्मिक अवस्था
- (2) तात्त्विक अवस्था
- (3) सकारात्मक अवस्था
- (4) गतिशील अवस्था

(1) 1

(2) 2

(3) 3

(4) 4

1[Option ID=12541]

2[Option ID=12542]

3[Option ID=12543]

4[Option ID=12544]

Sl. No.37

QBID:1019012

“The Protestant Ethic and the Spirit of Capitalism” is the major work of

- (1) Auguste Comte
- (2) Max Weber
- (3) Emile Durkheim
- (4) Herbert Spencer

(1) 1

(2) 2

(3) 3

(4) 4

“दि प्रोटेस्टेंट एथिक एंड दि स्पिरिट ऑफ कैपिटलिज्म” के लेखक कौन हैं ?

- (1) अगस्त काम्टे
- (2) मैक्स वेबर
- (3) इमार्इल दुर्खाइम
- (4) हरबर्ट स्पेंसर

(1) 1

(2) 2

(3) 3

(4) 4

1[Option ID=12545]

2[Option ID=12546]

3[Option ID=12547]

4[Option ID=12548]

SI. No.38
QBID:1019013

The ideas blended into the theory of social evolution are based on the key concept of

- A. Natural Selection/Survival of the fittest
- B. The inherent instability of all social systems

- (1) Only A is correct
- (2) Only B is correct
- (3) Both A and B are correct
- (4) Both A and B are incorrect

- (1) 1
- (2) 2
- (3) 3
- (4) 4

सामाजिक उद्‌विकास के सिद्धांत में मिश्रित विचार, किस प्रमुख अवधारणा पर आधारित हैं ?

- A. प्राकृतिक चयन/योग्यतम की उत्तरजीविता
- B. सभी सामाजिक प्रणालियों की अंतर्निहित अस्थिरता

- (1) केवल A सही है
- (2) केवल B सही है
- (3) A और B दोनों सही हैं
- (4) A और B दोनों गलत हैं

- (1) 1
- (2) 2
- (3) 3
- (4) 4

1[Option ID=12549]
2[Option ID=12550]
3[Option ID=12551]
4[Option ID=12552]

SI. No.39
QBID:1019014

For Durkheim, _____ is the complex division of labour that underpins the industrial economies of modern societies where everyone is interdependent.

- (1) Organic Solidarity
- (2) Mechanical Solidarity
- (3) Integrated Solidarity
- (4) Individualised Solidarity

- (1) 1
- (2) 2
- (3) 3

(4) 4

दुर्खाइम के अनुसार, _____ श्रम का वह जटिल विभाजन है, जो आधुनिक समाजों की औद्योगिक अर्थव्यवस्था का सहारा लेता है जहाँ सभी एक दूसरे पर आश्रित हैं ।

- (1) सावयवी एकात्मकता
- (2) यांत्रिक एकात्मकता
- (3) एकीकृत एकात्मकता
- (4) वैयक्तिकृत एकात्मकता

(1) 1

(2) 2

(3) 3

(4) 4

1[Option ID=12553]

2[Option ID=12554]

3[Option ID=12555]

4[Option ID=12556]

Sl. No.40

QBID:1019015

Match List I with List II

List I	List II
A. Karl Marx	I. Mind, Self and Society
B. Emile Durkheim	II. Economy and Society
C. G.H. Mead	III. The Division of Labour in Society
D. Max Weber	IV. Communist Manifesto

Choose the correct answer from the options given below :

- (1) A-III, B-II, C-IV, D-I
- (2) A-I, B-II, C-III, D-IV
- (3) A-IV, B-III, C-I, D-II
- (4) A-IV, B-III, C-II, D-I

(1) 1

(2) 2

(3) 3

(4) 4

सूची I के साथ सूची II का मिलान कीजिए :

सूची I	सूची II
A. कार्ल मार्क्स	I. मन, आत्म और समाज
B. इमार्शल दुर्खाइम	II. अर्थव्यवस्था और समाज
C. जी.एच.मीड	III. समाज में श्रम का विभाजन
D. मैक्स वेबर	IV. कम्युनिस्ट मनिफेस्टो

नीचे दिए गए विकल्पों में से सही उत्तर का चयन कीजिए :

- (1) A-III, B-II, C-IV, D-I
- (2) A-I, B-II, C-III, D-IV
- (3) A-IV, B-III, C-I, D-II
- (4) A-IV, B-III, C-II, D-I

- (1) 1
- (2) 2
- (3) 3
- (4) 4

1[Option ID=12557]
2[Option ID=12558]
3[Option ID=12559]
4[Option ID=12560]

Sl. No.41
QBID:1019016

The theory of social change as advocated by Spencer traces the change from _____ to industrial society.

- (1) Hunting – gathering
- (2) Military
- (3) Ancient society
- (4) Capitalism

- (1) 1
- (2) 2
- (3) 3
- (4) 4

स्पेंसर द्वारा प्रतिपादित सामाजिक परिवर्तन के सिद्धांत में _____ से औद्योगिक समाज में परिवर्तन को प्रस्तुत किया गया है ।

- (1) शिकार - संग्रहण
- (2) सैनिक
- (3) प्राचीन समाज
- (4) पूँजीवाद

(1) 1

(2) 2

(3) 3

(4) 4

1[Option ID=12561]

2[Option ID=12562]

3[Option ID=12563]

4[Option ID=12564]

Sl. No.42

QBID:1019017

In Mead's theory of development of the self, the first stage has been referred to as :

- (1) The Game stage
- (2) The Play stage
- (3) The Nascent stage
- (4) The Primary stage

(1) 1

(2) 2

(3) 3

(4) 4

आत्म के विकास में मीड के सिद्धांत के अनुसार प्रथम चरण को किस रूप में संदर्भित किया गया है ?

- (1) खेल चरण
- (2) प्ले चरण
- (3) आरंभिक चरण
- (4) प्राथमिक चरण

(1) 1

(2) 2

(3) 3

(4) 4

1[Option ID=12565]

2[Option ID=12566]

3[Option ID=12567]

4[Option ID=12568]

Sl. No.43

QBID:1019018

The process by which an outsider, immigrant or subordinate group, becomes indistinguishably integrated into the dominant host society is referred to as

- (1) Accommodation
- (2) Assimilation
- (3) Competition
- (4) Integration

(1) 1

(2) 2

(3) 3

(4) 4

वह प्रक्रिया जिसके द्वारा एक बाहरी, अप्रवासी या अधीनस्थ समूह, मेजबान समाज में अप्रभेद्य रूप से एकीकृत हो जाता है, को क्या कहते हैं ?

- (1) समायोजन
- (2) आत्मसातीकरण
- (3) प्रतिस्पर्धा
- (4) एकीकरण

(1) 1

(2) 2

(3) 3

(4) 4

1[Option ID=12569]

2[Option ID=12570]

3[Option ID=12571]

4[Option ID=12572]

Sl. No.44

QBID:1019019

According to Tonnies, Gesellschaft refers to

- (1) small, rural, tightly knit communities
- (2) associational, impersonal, industrial society
- (3) kin group
- (4) household

(1) 1

(2) 2

(3) 3

(4) 4

निम्नलिखित में से कौन-सा कथन मीडिया का सही विवरण नहीं है ?

- (1) मीडिया सामाजिक परिवर्तन का एक एजेंट है
- (2) मीडिया एक जादुई गुणक है
- (3) मीडिया प्रभावकारी है
- (4) मीडिया संस्कृति को प्रभावित करता है

- (1) 1
- (2) 2
- (3) 3
- (4) 4

1[Option ID=12573]

2[Option ID=12574]

3[Option ID=12575]

4[Option ID=12576]

Sl. No.45

QBID:1019020

The concept of cultural lag was given by

- (1) Ogburn
- (2) Redfield
- (3) Tylor
- (4) Morgan

- (1) 1
- (2) 2
- (3) 3
- (4) 4

सांस्कृतिक विलम्बन की अवधारणा किसने प्रस्तुत की थी ?

- (1) ऑगबर्न
- (2) रेडफील्ड
- (3) टायलर
- (4) मॉर्गन

- (1) 1
- (2) 2
- (3) 3
- (4) 4

1[Option ID=12577]

2[Option ID=12578]

3[Option ID=12579]

4[Option ID=12580]

Sl. No.46

QBID:1019021

Who observed that, 'the culture of a society is the way of life of its members : the collection of ideas and habits which they learn, share and transmit from generation to generation' ?

- (1) Ralph Linton
- (2) Max Weber
- (3) Emile Durkheim
- (4) Clyde Kluckhohn

(1) 1

(2) 2

(3) 3

(4) 4

किसने अवलोकन किया था कि, 'एक समाज की संस्कृति उसके सदस्यों के जीवन का तरीका है : विचारों और आदतों का संयोजन है जो वे सीखते हैं, साझा करते हैं और पीढ़ी दर पीढ़ी आगे प्रसारित करते हैं' ?

- (1) रॉल्फ लिंटन
- (2) मैक्स वेबर
- (3) इमाईल दुर्खाइम
- (4) क्लाउड क्लकहोन

(1) 1

(2) 2

(3) 3

(4) 4

1[Option ID=12581]

2[Option ID=12582]

3[Option ID=12583]

4[Option ID=12584]

Sl. No.47

QBID:1019022

An unilineal kin group, claiming descent from a common ancestor, often represented by a totem is called

- (1) Extended family
- (2) Clan
- (3) Neighbourhood
- (4) Cognate

(1) 1

(2) 2

(3) 3

(4) 4

एक-शाखीय परिजन समूह, जो एक समान/साझा पूर्वज से वंश का दावा करता है, प्रायः जिसका प्रतिनिधित्व टोटेम द्वारा किया जाता है :

- (1) विस्तृत परिवार
- (2) कुटुम्भ (क्लान)
- (3) पड़ोस
- (4) मातृबंधु (काँगनेट)

(1) 1

(2) 2

(3) 3

(4) 4

1[Option ID=12585]

2[Option ID=12586]

3[Option ID=12587]

4[Option ID=12588]

SI. No.48

QBID:1019023

The classic study, 'Folkways' was authored by

- (1) Sumner
- (2) Marriott
- (3) Ogburn
- (4) Redfield

(1) 1

(2) 2

(3) 3

(4) 4

क्लासिक अध्ययन 'फोकवेज' किसके द्वारा लिखा गया था ?

- (1) समनर
- (2) मैरियट
- (3) ऑगबर्न
- (4) रेडफील्ड

(1) 1

(2) 2

(3) 3

(4) 4

1[Option ID=12589]

2[Option ID=12590]

3[Option ID=12591]

4[Option ID=12592]

SI. No.49

QBID:1019024

Who has argued that, 'deviance is not a quality of the act a person commits, but rather a consequence of the application by others of rules and sanctions to an offender ?'

- (1) Merton
- (2) Becker
- (3) Lemert
- (4) Goffman

(1) 1

(2) 2

(3) 3

(4) 4

यह तर्क किसने दिया है कि, 'विचलन, व्यक्ति द्वारा किए गए कार्य की गुणवत्ता नहीं है, बल्कि अपराधी के लिए नियमों और प्रतिबंधों के प्रति अन्य लोगों के अनुप्रयोग का परिणाम है' ?

- (1) मर्टन
- (2) बैकर
- (3) लेमर्ट
- (4) गोफमैन

(1) 1

(2) 2

(3) 3

(4) 4

1[Option ID=12593]

2[Option ID=12594]

3[Option ID=12595]

4[Option ID=12596]

SI. No.50

QBID:1019025

Identify the one which is NOT an online database.

- (1) ERIC
- (2) Proquest
- (3) Google Scholar
- (4) Anomie

(1) 1

(2) 2

(3) 3

(4) 4

निम्नलिखित में से कौन ऑनलाइन डेटाबेस नहीं है?

- (1) एरिक
- (2) प्रोक्वेस्ट
- (3) गूगल स्कॉलर
- (4) प्रतिमानहीनता

(1) 1

(2) 2

(3) 3

(4) 4

1[Option ID=12597]

2[Option ID=12598]

3[Option ID=12599]

4[Option ID=12600]

Sl. No.51

QBID:1019026

Given below are two statements :

Statement I :

“Culture is that complex whole which includes knowledge, belief, arts, morals, law, custom and any other capabilities and habits acquired by man as a member of society.”

Statement II :

Only with the help of new technology we can produce culture.

In the light of the above statements, choose the most appropriate answer from the options given below

- (1) Both Statement I and Statement II are correct
- (2) Both Statement I and Statement II are incorrect
- (3) Statement I is correct but Statement II is incorrect
- (4) Statement I is incorrect but Statement II is correct

(1) 1

(2) 2

(3) 3

(4) 4

नीचे दो कथन दिए गए हैं

कथन I :

“संस्कृति वह जटिल समग्र है, जिसमें समाज के सदस्य के रूप में मानव द्वारा प्राप्त ज्ञान, विश्वास, कला, नैतिकता, विधि, प्रथा और अन्य क्षमताएँ और आदर्तें शामिल हैं ।”

कथन II :

सिर्फ नई प्रौद्योगिकी की सहायता से ही हम संस्कृति का निर्माण कर सकते हैं ।

उपरोक्त कथन के आलोक में, नीचे दिए गए विकल्पों में से सबसे उपयुक्त उत्तर का चयन कीजिए :

- (1) कथन I और II दोनों सही हैं
- (2) कथन I और II दोनों गलत हैं
- (3) कथन I सही है, लेकिन कथन II गलत है
- (4) कथन I गलत है, लेकिन कथन II सही है

(1) 1

(2) 2

(3) 3

(4) 4

1[Option ID=12601]

2[Option ID=12602]

3[Option ID=12603]

4[Option ID=12604]

Sl. No.52

QBID:1019027

Enlightenment with a combination of secularization, rationalization, democratization, individualism and the rise of scientific thinking are characteristics of

- (1) Modernity
- (2) Traditionality
- (3) Post-Modernity
- (4) Pre-Modernity

(1) 1

(2) 2

(3) 3

(4) 4

धर्मनिरपेक्षता, युक्तिकरण, लोकतंत्रीकरण, व्यक्तिवाद के संयोजन से प्रबोध और वैज्ञानिक चिंतन का उदय, किसकी विशेषताएँ हैं ?

- (1) आधुनिकता
- (2) परम्परागतता
- (3) पश्च-आधुनिकता
- (4) उत्तर-आधुनिकता

- (1) 1
- (2) 2
- (3) 3
- (4) 4

1[Option ID=12605]
2[Option ID=12606]
3[Option ID=12607]
4[Option ID=12608]

Sl. No.53

QBID:1019028

Which one of the following is not a part of quantitative data ?

- (1) Data on Crime
- (2) Data on Suicide
- (3) Case study data
- (4) Census data

- (1) 1
- (2) 2
- (3) 3
- (4) 4

निम्नलिखित में से कौन-सा मात्रापरक आंकड़ों का भाग नहीं है ?

- (1) अपराध के आंकड़े
- (2) आत्महत्या के आंकड़े
- (3) केस स्टडी के आंकड़े
- (4) जनगणना के आंकड़े

- (1) 1
- (2) 2
- (3) 3
- (4) 4

1[Option ID=12609]
2[Option ID=12610]

3[Option ID=12611]

4[Option ID=12612]

SI. No.54

QBID:1019029

Which one of the following is not a source of secondary data ?

- (1) Census
- (2) Data from Crime Bureau
- (3) Interview
- (4) Voter list

(1) 1

(2) 2

(3) 3

(4) 4

निम्नलिखित में से कौन-सा द्वितीयक आंकड़ों का स्रोत नहीं है ?

- (1) जनगणना
- (2) अपराध ब्यूरो से आंकड़े
- (3) साक्षात्कार
- (4) मतदाता सूची

(1) 1

(2) 2

(3) 3

(4) 4

1[Option ID=12613]

2[Option ID=12614]

3[Option ID=12615]

4[Option ID=12616]

SI. No.55

QBID:1019030

The book "Methods in Social Research" is written by

- (1) Goode and Hatt
- (2) Anthony Giddens
- (3) Haralambos
- (4) T.K. Oommen

(1) 1

(2) 2

(3) 3

(4) 4

“मेथड्स इन सोशल रिसर्च” पुस्तक के लेखक कौन हैं ?

- (1) गुड एंड हाट
- (2) एन्थनी गिडेंस
- (3) हरलम्बोस
- (4) टी.के. उमन

- (1) 1
- (2) 2
- (3) 3
- (4) 4

1[Option ID=12617]
2[Option ID=12618]
3[Option ID=12619]
4[Option ID=12620]

Sl. No.56
QBID:1019031

The Dowry Prohibition Act was introduced in

- (1) 1961
- (2) 1963
- (3) 1968
- (4) 1969

- (1) 1
- (2) 2
- (3) 3
- (4) 4

दहेज निषेध अधिनियम किस वर्ष लागू किया गया था ?

- (1) 1961
- (2) 1963
- (3) 1968
- (4) 1969

- (1) 1
- (2) 2
- (3) 3
- (4) 4

1[Option ID=12621]
2[Option ID=12622]
3[Option ID=12623]
4[Option ID=12624]

Sl. No.57
QBID:1019032

Which among the following is a Tribe ?

- (1) Teej
- (2) Bihu
- (3) Khasi
- (4) Onam

(1) 1

(2) 2

(3) 3

(4) 4

निम्नलिखित में से कौनसी जनजाति है ?

- (1) तीज
- (2) बीहू
- (3) खासी
- (4) ओणम

(1) 1

(2) 2

(3) 3

(4) 4

1[Option ID=12625]

2[Option ID=12626]

3[Option ID=12627]

4[Option ID=12628]

SI. No.58

QBID:1019033

73rd Amendment was introduced in the year

- (1) 1992
- (2) 2002
- (3) 1982
- (4) 1979

(1) 1

(2) 2

(3) 3

(4) 4

73वाँ संविधान संशोधन किस वर्ष लागू हुआ था ?

- (1) 1992
- (2) 2002
- (3) 1982
- (4) 1979

(1) 1

(2) 2

(3) 3

(4) 4

1[Option ID=12629]

2[Option ID=12630]

3[Option ID=12631]

4[Option ID=12632]

Sl. No.59

QBID:1019034

Community Development Programme was introduced in India in the year

(1) 1959

(2) 1957

(3) 1956

(4) 1952

(1) 1

(2) 2

(3) 3

(4) 4

भारत में “सामुदायिक विकास कार्यक्रम” किस वर्ष में लागू किया गया था ?

(1) 1959

(2) 1957

(3) 1956

(4) 1952

(1) 1

(2) 2

(3) 3

(4) 4

1[Option ID=12633]

2[Option ID=12634]

3[Option ID=12635]

4[Option ID=12636]

Sl. No.60

QBID:1019035

LPG in terms of Development is

(1) Liberalisation, Privatization, Globalisation

(2) Language Pertinent Groups

(3) Liquefied Petroleum Gas

(4) Least Populated Groups

(1) 1

(2) 2

(3) 3

(4) 4

विकास की दृष्टि से “एल.पी.जी.” का क्या अर्थ है ?

- (1) उदारीकरण, निजीकरण, भूमंडलीकरण
- (2) भाषा प्रासंगिक समूह
- (3) द्रवित पेट्रोलियम गैस
- (4) निम्नतम आबाद समूह

(1) 1

(2) 2

(3) 3

(4) 4

1[Option ID=12637]

2[Option ID=12638]

3[Option ID=12639]

4[Option ID=12640]

Sl. No.61

QBID:1019036

A research method that aims to gain a close and intimate familiarity with a given area of study through an intimate involvement with people in their natural environment is referred to as

- (1) Non-participant observation
- (2) Participant observation
- (3) Survey method
- (4) Content analysis

(1) 1

(2) 2

(3) 3

(4) 4

सूची I के साथ सूची II का मिलान कीजिए

सूची I	सूची II
A. कूले	I. विरक्ति
B. फ्राँयड	II. आई एवं मी
C. मीड	III. इड, अहम, सुपर ईगो
D. वेबर	IV. दर्पणित व्यक्तित्व (लुकिंग ग्लास सेल्फ)

नीचे दिए गए विकल्पों में से सही उत्तर का चयन कीजिए

- (1) A-IV, B-III, C-II, D-I
- (2) A-II, B-III, C-IV, D-I
- (3) A-I, B-II, C-III, D-IV
- (4) A-III, B-II, C-I, D-IV

- (1) 1
- (2) 2
- (3) 3
- (4) 4

1[Option ID=12641]

2[Option ID=12642]

3[Option ID=12643]

4[Option ID=12644]

SI. No.62

QBID:1019037

Who among the following is referred to as the 'Father of the Green Revolution' in India ?

- (1) Norman Borlaug
- (2) M.S. Swaminathan
- (3) Verghese Kurien
- (4) A.P.J. Abdul Kalam

- (1) 1
- (2) 2
- (3) 3
- (4) 4

निम्नलिखित में से किसे भारत में "हरित क्रांति का जनक" कहा गया है ?

- (1) नॉर्मन बोरलॉग
- (2) एम.एस.स्वामीनाथन
- (3) वर्गीज कुरियन
- (4) ए.पी.जे. अब्दुल कलाम

- (1) 1
- (2) 2

(3) 3

(4) 4

1[Option ID=12645]

2[Option ID=12646]

3[Option ID=12647]

4[Option ID=12648]

Sl. No.63

QBID:1019038

In which year was the LPG paradigm introduced in India ?

(1) 1995

(2) 2000

(3) 1998

(4) 1991

(1) 1

(2) 2

(3) 3

(4) 4

भारत में 'एल.पी.जी. प्रतिमान' किस वर्ष आरंभ किया गया था ?

(1) 1995

(2) 2000

(3) 1998

(4) 1991

(1) 1

(2) 2

(3) 3

(4) 4

1[Option ID=12649]

2[Option ID=12650]

3[Option ID=12651]

4[Option ID=12652]

Sl. No.64

QBID:1019039

Given below are two statements :

Statement I :

Sociology as well as Psychology are both social sciences.

Statement II :

Compared to Psychology, Sociology is less concerned with the individual, and more concerned with humans in groups.

In the light of the above statements, choose the most appropriate answer from the options given below :

- (1) Both Statement I and Statement II are true
- (2) Both Statement I and Statement II are false
- (3) Statement I is true but Statement II is false
- (4) Statement I is false but Statement II is true

(1) 1

(2) 2

(3) 3

(4) 4

नीचे दो कथन दिए गए हैं :

कथन I :

समाजशास्त्र और मनोविज्ञान, दोनों ही सामाजिक विज्ञान हैं ।

कथन II :

मनोविज्ञान की तुलना में, समाजशास्त्र व्यक्ति से कम संबंधित है, और समूह में मनुष्यों से अधिक संबंधित है ।

उपरोक्त कथन के आलोक में, नीचे दिए गए विकल्पों में से सबसे उपयुक्त उत्तर का चयन कीजिए :

- (1) कथन I और कथन II दोनों सही हैं
- (2) कथन I और कथन II दोनों गलत हैं
- (3) कथन I सही है, लेकिन कथन II गलत है
- (4) कथन I गलत है, लेकिन कथन II सही है

- (1) 1
- (2) 2
- (3) 3
- (4) 4

1[Option ID=12653]
2[Option ID=12654]
3[Option ID=12655]
4[Option ID=12656]

Sl. No.65
QBID:1019040

Caste Status is known as

- (1) Achieved Status
- (2) Ascribed Status
- (3) Economic Status
- (4) Royal Status

- (1) 1
- (2) 2
- (3) 3
- (4) 4

“जाति-प्रस्थिति” को क्या कहते हैं ?

- (1) अर्जित प्रस्थिति
- (2) प्रदत्त (एस्क्राइब्ड) प्रस्थिति
- (3) आर्थिक प्रस्थिति
- (4) शाही प्रस्थिति

- (1) 1
- (2) 2
- (3) 3
- (4) 4

1[Option ID=12657]
2[Option ID=12658]
3[Option ID=12659]
4[Option ID=12660]

Sl. No.66
QBID:1019041

Which of the following States figured in the category of BIMARU States :

- A. Bihar
- B. Uttar Pradesh
- C. Rajasthan
- D. Assam
- E. Madhya Pradesh

Choose the correct answer from the options given below :

- (1) A B C D only
- (2) B C D E only
- (3) C D E A only
- (4) A E C B only

(1) 1

(2) 2

(3) 3

(4) 4

निम्नलिखित में से कौन से राज्य बीमारु राज्य की श्रेणी में माने गए थे ?

- A. बिहार
- B. उत्तर प्रदेश
- C. राजस्थान
- D. असम
- E. मध्य प्रदेश

नीचे दिए गए विकल्पों में से सही उत्तर का चयन कीजिए :

- (1) केवल A B C D
- (2) केवल B C D E
- (3) केवल C D E A
- (4) केवल A E C B

(1) 1

(2) 2

(3) 3

(4) 4

1[Option ID=12661]

2[Option ID=12662]

3[Option ID=12663]

4[Option ID=12664]

Sl. No.67

QBID:1019042

Given below are some of the characteristics of a modern society :

- A. Secularization
- B. Rationalization
- C. Democratization
- D. Ascribed Status
- E. Scientific Temper

Choose the correct answer from the options given below :

- (1) B C D E only
- (2) A B C E only
- (3) A B C D only
- (4) C D E A only

(1) 1

(2) 2

(3) 3

(4) 4

निम्नलिखित में से आधुनिक समाज के गुण कौन से हैं ?

- A. धर्मनिरपेक्षीकरण
- B. तार्किकीकरण (रेशनलाइजेशन)
- C. लोकतंत्रीकरण
- D. प्रदत्त (एस्क्राइब्ड) प्रस्थिति
- E. वैज्ञानिक स्वभाव

नीचे दिए गए विकल्पों में से सही उत्तर का चयन कीजिए :

- (1) केवल B C D E
- (2) केवल A B C E
- (3) केवल A B C D
- (4) केवल C D E A

(1) 1

(2) 2

(3) 3

(4) 4

1[Option ID=12665]

2[Option ID=12666]

3[Option ID=12667]

4[Option ID=12668]

Sl. No.68

QBID:1019043

Given below are two statements

Statement I :

Man is social by nature.

Statement II :

Society is a relation among individuals.

In the light of the above statements, choose the most appropriate answer from the options given below :

- (1) Both Statement I and Statement II are correct
- (2) Both Statement I and Statement II are incorrect
- (3) Statement I is correct but Statement II is incorrect
- (4) Statement I is incorrect but Statement II is correct

(1) 1

(2) 2

(3) 3

(4) 4

नीचे दो कथन दिए गए हैं

कथन I :

मनुष्य प्रकृति से सामाजिक है ।

कथन II :

समाज व्यक्तियों के बीच संबंध है ।

उपरोक्त कथनों के आलोक में, नीचे दिए गए विकल्पों में से सबसे उपयुक्त उत्तर का चयन कीजिए :

- (1) कथन I और कथन II दोनों सही हैं
- (2) कथन I और कथन II दोनों गलत हैं
- (3) कथन I सही है, लेकिन कथन II गलत है
- (4) कथन I गलत है, लेकिन कथन II सही है

(1) 1

(2) 2

(3) 3

(4) 4

1[Option ID=12669]

2[Option ID=12670]

3[Option ID=12671]

4[Option ID=12672]

Sl. No.69

QBID:1019044

Female foeticide means

- (1) Death of a girl after birth
- (2) Death of a girl in the womb of her mother
- (3) Death after marriage
- (4) Death after one year

(1) 1

(2) 2

(3) 3

(4) 4

“कन्या भ्रूण हत्या” का क्या अर्थ है ?

- (1) जन्म के पश्चात कन्या की मृत्यु
- (2) माता की कोख में ही कन्या की मृत्यु
- (3) विवाह पश्चात मृत्यु
- (4) एक वर्ष पश्चात मृत्यु

(1) 1

(2) 2

(3) 3

(4) 4

1[Option ID=12673]

2[Option ID=12674]

3[Option ID=12675]

4[Option ID=12676]

Sl. No.70

QBID:1019045

An absence, breakdown, confusion or conflict in the norms of society is known as

- (1) Anomie
- (2) Deviance
- (3) Crime
- (4) Pandemic

(1) 1

(2) 2

(3) 3

(4) 4

समाज के मानदंडों में अनुपस्थिति, विखंडन, भ्रम, टकराव को क्या कहते हैं ?

- (1) अप्रतिमानता
- (2) विसामान्यता
- (3) अपराध
- (4) महामारी

(1) 1

(2) 2

(3) 3

(4) 4

1[Option ID=12677]

2[Option ID=12678]

3[Option ID=12679]

4[Option ID=12680]

Sl. No.71

QBID:1019046

Match List I with List II

List I	List II
A. Cooley	I. Disenchantment
B. Freud	II. I and ME
C. Mead	III. Id, Ego, Superego
D. Weber	IV. Looking Glass Self

Choose the correct answer from the options given below :

- (1) A-IV, B-III, C-II, D-I
- (2) A-II, B-III, C-IV, D-I
- (3) A-I, B-II, C-III, D-IV
- (4) A-III, B-II, C-I, D-IV

(1) 1

(2) 2

(3) 3

(4) 4

सूची I के साथ सूची II का मिलान कीजिए

सूची I	सूची II
A. कूले	I. विरक्ति
B. फ्रॉयड	II. आई एवं मी
C. मीड	III. इड, अहम, सुपर ईगो
D. वेबर	IV. दर्पणित व्यक्तित्व (लुकिंग ग्लास सेल्फ)

नीचे दिए गए विकल्पों में से सही उत्तर का चयन कीजिए

- (1) A-IV, B-III, C-II, D-I
- (2) A-II, B-III, C-IV, D-I
- (3) A-I, B-II, C-III, D-IV
- (4) A-III, B-II, C-I, D-IV

- (1) 1
- (2) 2
- (3) 3
- (4) 4

1[Option ID=12681]
2[Option ID=12682]
3[Option ID=12683]
4[Option ID=12684]

Sl. No.72
QBID:1019047

Match List I with List II

List I	List II
A. G.S. Ghurye	I. Structure and Cognition : Aspects of Hindu Caste and Ritual
B. A.M. Shah and I.P. Desai	II. Caste and Class in India
C. Veena Das	III. Division and Hierarchy : An Overview of Caste in Gujarat
D. McKim Marriott	IV. Village India : Studies in the Little Community

Choose the correct answer from the options given below :

- (1) A-I, B-II, C-III, D-IV
- (2) A-IV, B-III, C-II, D-I
- (3) A-II, B-III, C-I, D-IV
- (4) A-I, B-III, C-IV, D-II

- (1) 1
- (2) 2

(3) 3

(4) 4

सूची I के साथ सूची II का मिलान कीजिए

सूची I	सूची II
A. जी.एस. घुर्ये	I. स्ट्रक्चर एंड काॅगनीशन: आस्पेक्ट्स ऑफ हिन्दू कास्ट एंड रिचुअल
B. एम.एम.शाह और आई.पी. देसाई	II. कास्ट एंड क्लास इन इंडिया
C. वीना दास	III. डिवीजन एंड हेराकी:एन ओवरव्यू ऑफ कास्ट इन गुजरात
D. मैकिम मैरियोट	IV. स्टडीज इन द लिटल कम्युनिटी

नीचे दिए गए विकल्पों में से सही उत्तर का चयन कीजिए :

- (1) A-I, B-II, C-III, D-IV
- (2) A-IV, B-III, C-II, D-I
- (3) A-II, B-III, C-I, D-IV
- (4) A-I, B-III, C-IV, D-II

(1) 1

(2) 2

(3) 3

(4) 4

1[Option ID=12685]

2[Option ID=12686]

3[Option ID=12687]

4[Option ID=12688]

Sl. No.73

QBID:1019048

Match List I with List II

List I	List II
A. Andre Beteille	I. Homo Hierarchicus : The Caste System and its Implications
B. M.N. Srinivas	II. Caste and the Economic Frontier
C. F.G. Bailey	III. Religion and Society among the Coorgs of South India
D. Louis Dumont	IV. Caste, Class and Power : Changing Social Stratification in a Tanjore Village

Choose the correct answer from the options given below :

- (1) A-I, B-II, C-III, D-IV
- (2) A-II, B-III, C-I, D-IV
- (3) A-IV, B-II, C-I, D-III
- (4) A-IV, B-III, C-II, D-I

- (1) 1
- (2) 2
- (3) 3
- (4) 4

सूची I के साथ सूची II का मिलान कीजिए

सूची I	सूची II
A. आंद्रे बेतेई	I. हामो हेराकीकस: द कास्ट सिस्टम एंड इट्स इम्प्लीकेशंस
B. एम.एन. श्रीनिवास	II. कास्ट एंड द इकोनॉमिक फ्रंटीयर
C. एफ.जी. बेली	III. रिलीजन एंड सोसायटी एमंग द कूर्स ऑफ साउथ इंडिया
D. लूईस ड्यूमॉन्ट	IV. कास्ट, क्लास एंड पाँवर: चेंजिंग सोशल स्ट्रेटिफिकेशन इन ए तंजोर विलेज

नीचे दिए गए विकल्पों में से सही उत्तर का चयन कीजिए :

- (1) A-I, B-II, C-III, D-IV
- (2) A-II, B-III, C-I, D-IV
- (3) A-IV, B-II, C-I, D-III
- (4) A-IV, B-III, C-II, D-I

- (1) 1
- (2) 2

(3) 3

(4) 4

1[Option ID=12689]

2[Option ID=12690]

3[Option ID=12691]

4[Option ID=12692]

Sl. No.74

QBID:1019049

Given below are two statements :

Statement I :

According to Pareto, there is circulation of elites in society.

Statement II :

Circulation occurs because some people were more suited to the maintenance of the status quo while others coped better during periods of change.

In the light of the above statements, choose the most appropriate answer from the options given below :

- (1) Both Statement I and Statement II are correct
- (2) Both Statement I and Statement II are incorrect
- (3) Statement I is correct but Statement II is incorrect
- (4) Statement I is incorrect but Statement II is correct

(1) 1

(2) 2

(3) 3

(4) 4

नीचे दो कथन दिए गए हैं :

कथन I :

परेटो के अनुसार, समाज में कुलीनों का चक्रीय परिसंचरण होता है ।

कथन II :

परिचलन की स्थिति उत्पन्न होती है, क्योंकि कुछ लोग यथास्थिति बनाए रखने के लिए अधिक उपयुक्त थे, जबकि अन्यो ने परिवर्तन की अवधि के दौरान बेहतर ढंग से सामना किया ।

उपरोक्त कथन के आलोक में, नीचे दिए गए विकल्पों में से सबसे उपयुक्त उत्तर का चयन कीजिए :

- (1) कथन I और कथन II दोनों सही हैं
- (2) कथन I और कथन II दोनों गलत हैं
- (3) कथन I सही है, लेकिन कथन II गलत है
- (4) कथन I गलत है, लेकिन कथन II सही है

(1) 1

(2) 2

(3) 3

(4) 4

1[Option ID=12693]

2[Option ID=12694]

3[Option ID=12695]

4[Option ID=12696]

Sl. No.75

QBID:1019050

State or condition of being the same, especially in terms of social status or legal/political rights is called

- (1) Equality
- (2) Liberty
- (3) Fraternity
- (4) Freedom

(1) 1

(2) 2

(3) 3

(4) 4

समान होने की स्थिति या परिस्थिति, विशेष रूप से सामाजिक स्थिति या विधिक/राजनीतिक अधिकारों की दृष्टि से क्या कहलाती है ?

- (1) समानता
- (2) स्वातंत्र्य (लिबर्टी)
- (3) बंधुत्व
- (4) स्वतंत्रता

- (1) 1
- (2) 2
- (3) 3
- (4) 4

1[Option ID=12697]
2[Option ID=12698]
3[Option ID=12699]
4[Option ID=12700]

Sl. No.76

QBID:1019051

Match List I with List II

List I	List II
A. In-Group	I. Any group accepted as a model
B. Out-Group	II. A group towards which one has a feeling of belonging
C. Reference Group	III. Group in which contacts are impersonal
D. Secondary Group	IV. Group towards which one has no feeling of belonging

Choose the correct answer from the options given below :

- (1) A-I, B-IV, C-III, D-II
- (2) A-II, B-IV, C-I, D-III
- (3) A-II, B-I, C-III, D-IV
- (4) A-I, B-II, C-III, D-IV

- (1) 1
- (2) 2
- (3) 3
- (4) 4

सूची I के साथ सूची II का मिलान कीजिए

सूची I	सूची II
A. अन्तः समूह	I. मॉडल के रूप में स्वीकार किया गया कोई समूह
B. बाह्य समूह	II. समूह, जिसके प्रति व्यक्ति की अपनेपन की भावना हो
C. संदर्भ समूह	III. समूह, जिसमें सम्पर्क अव्यक्तिगत हैं
D. द्वितीयक समूह	IV. समूह, जिसके प्रति व्यक्ति की अपनेपन की भावना ही नहीं है

नीचे दिए गए विकल्पों में से सही उत्तर का चयन कीजिए :

- (1) A-I, B-IV, C-III, D-II
- (2) A-II, B-IV, C-I, D-III
- (3) A-II, B-I, C-III, D-IV
- (4) A-I, B-II, C-III, D-IV

(1) 1

(2) 2

(3) 3

(4) 4

1[Option ID=12701]

2[Option ID=12702]

3[Option ID=12703]

4[Option ID=12704]

Sl. No.77

QBID:1019052

Given below are two statements :

Statement I :

Status is that it represents the position of individual in the group.

Statement II :

Role is the worth of a person as estimated by a group or class of persons.

In the light of the above statements, choose the most appropriate answer from the options given below :

- (1) Both Statement I and Statement II are correct
- (2) Both Statement I and Statement II are incorrect
- (3) Statement I is correct but Statement II is incorrect
- (4) Statement I is incorrect but Statement II is correct

(1) 1

(2) 2

(3) 3

(4) 4

नीचे दो कथन दिए गए हैं :

कथन I :

प्रस्थिति (स्टेटस) वह है, जो समूह में व्यक्ति के स्तर का प्रतिनिधित्व करती है ।

कथन II :

भूमिका, व्यक्ति की वह साख है, जो समूह या व्यक्तियों के वर्ग द्वारा अनुमानित की जाती है ।

उपरोक्त कथन के आलोक में, नीचे दिए गए विकल्पों में से सबसे उपयुक्त उत्तर का चयन कीजिए :

- (1) कथन I और कथन II दोनों सही हैं
- (2) कथन I और कथन II दोनों गलत हैं
- (3) कथन I सही है, लेकिन कथन II गलत है
- (4) कथन I गलत है, लेकिन कथन II सही है

(1) 1

(2) 2

(3) 3

(4) 4

1[Option ID=12705]

2[Option ID=12706]

3[Option ID=12707]

4[Option ID=12708]

Sl. No.78

QBID:1019053

Given below are two statements :

Statement I :

Culture is the totality of a group's ways, thoughts and actions duly accepted and followed by a group of people.

Statement II :

Culture can be acquired through socialization.

In the light of the above statements, choose the most appropriate answer from the options given below :

- (1) Both Statement I and Statement II are correct
- (2) Both Statement I and Statement II are incorrect
- (3) Statement I is correct but Statement II is incorrect
- (4) Statement I is incorrect but Statement II is correct

- (1) 1
- (2) 2
- (3) 3
- (4) 4

नीचे दो कथन दिए गए हैं :

कथन I :

संस्कृति समूह के तरीकों, विचारों और कार्यों की समग्रता है, जिसे लोगों के समूह द्वारा विधिवत स्वीकार और अनुसरण किया जाता है ।

कथन II :

संस्कृति को समाजीकरण के माध्यम से ग्रहण किया जा सकता है ।

उपरोक्त कथन के आलोक में, नीचे दिए गए विकल्पों में से सबसे उपयुक्त उत्तर का चयन कीजिए :

- (1) कथन I और कथन II दोनों सही हैं
- (2) कथन I और कथन II दोनों गलत हैं
- (3) कथन I सही है, लेकिन कथन II गलत है
- (4) कथन I गलत है, लेकिन कथन II सही है

- (1) 1
- (2) 2
- (3) 3
- (4) 4

- 1[Option ID=12709]
2[Option ID=12710]
3[Option ID=12711]
4[Option ID=12712]

Sl. No.79

QBID:1019054

Given below are two statements :

Statement I :

A community does not have a name.

Statement II :

A community is not a legal body.

In the light of the above statements, choose the most appropriate answer from the options given below :

- (1) Both Statement I and Statement II are correct
- (2) Both Statement I and Statement II are incorrect
- (3) Statement I is correct but Statement II is incorrect
- (4) Statement I is incorrect but Statement II is correct

- (1) 1
- (2) 2
- (3) 3
- (4) 4

नीचे दो कथन दिए गए हैं :

कथन I :

समुदाय का कोई नाम नहीं होता है ।

कथन II :

समुदाय विधिक निकाय नहीं है ।

उपरोक्त कथन के आलोक में, नीचे दिए गए विकल्पों में से सबसे उपयुक्त उत्तर का चयन कीजिए :

- (1) कथन I और कथन II दोनों सही हैं
- (2) कथन I और कथन II दोनों गलत हैं
- (3) कथन I सही है, लेकिन कथन II गलत है
- (4) कथन I गलत है, लेकिन कथन II सही है

- (1) 1
- (2) 2
- (3) 3
- (4) 4

- 1[Option ID=12713]
2[Option ID=12714]
3[Option ID=12715]
4[Option ID=12716]

Sl. No.80
QBID:1019055

Given below are two statements :

Statement I :

Social deviance is a variation from the norms of society.

Statement II :

There is no fixed standard for deviance.

In the light of the above statements, choose the most appropriate answer from the options given below :

- (1) Both Statement I and Statement II are correct
- (2) Both Statement I and Statement II are incorrect
- (3) Statement I is correct but Statement II is incorrect
- (4) Statement I is incorrect but Statement II is correct

- (1) 1
- (2) 2
- (3) 3
- (4) 4

नीचे दो कथन दिए गए हैं :

कथन I :

सामाजिक विसामान्यता, समाज के मानदंडों से भिन्न है ।

कथन II :

विसामान्यता के लिए कोई निर्धारित मानक नहीं है ।

उपरोक्त कथन के आलोक में, नीचे दिए गए विकल्पों में से सबसे उपयुक्त उत्तर का चयन कीजिए :

- (1) कथन I और कथन II दोनों सही हैं
- (2) कथन I और कथन II दोनों गलत हैं
- (3) कथन I सही है, लेकिन कथन II गलत है
- (4) कथन I गलत है, लेकिन कथन II सही है

- (1) 1
- (2) 2

(3) 3

(4) 4

1[Option ID=12717]

2[Option ID=12718]

3[Option ID=12719]

4[Option ID=12720]

Sl. No.81

QBID:1019056

In order to be dominant, a caste should preponderate _____ over the other castes.

- A. Numerically
- B. Politically
- C. Economically
- D. Scientifically
- E. Culturally

Choose the correct answer from the options given below :

- (1) A, B and C only
- (2) B, C and D only
- (3) D, A and B only
- (4) C, D and E only

(1) 1

(2) 2

(3) 3

(4) 4

प्रभुत्वशाली होने के लिए, एक जाति को _____ दूसरी जाति से प्रबल होना चाहिए ।

- A. संख्या के रूप में
- B. राजनीतिक रूप में
- C. आर्थिक रूप से
- D. वैज्ञानिक रूप से
- E. सांस्कृतिक रूप से

नीचे दिए गए विकल्पों में से सही उत्तर का चयन कीजिए :

- (1) केवल A, B और C
- (2) केवल B, C और D
- (3) केवल D, A और B
- (4) केवल C, D और E

- (1) 1
- (2) 2
- (3) 3
- (4) 4

1[Option ID=12721]
2[Option ID=12722]
3[Option ID=12723]
4[Option ID=12724]

Sl. No.82
QBID:1019057

Which of the following concepts refer to gender identity ?

- A. Masculinity
- B. Femininity
- C. Machismo
- D. Patriarchy
- E. Polygamy

Choose the correct answer from the options given below :

- (1) C, B and D only
- (2) A, C and E only
- (3) A, B and C only
- (4) E, B and A only

- (1) 1
- (2) 2
- (3) 3
- (4) 4

निम्नलिखित में से कौन-सी अवधारणा लिंग-स्मिता से संबंधित है ।

- A. पुरुषत्व
- B. स्त्रीत्व
- C. मर्दानगी
- D. पितृसत्ता
- E. बहुविवाह

नीचे दिए गए विकल्पों में से सही उत्तर का चयन कीजिए :

- (1) केवल C, B और D
- (2) केवल A, C और E
- (3) केवल A, B और C
- (4) केवल E, B और A

- (1) 1
- (2) 2
- (3) 3
- (4) 4

1[Option ID=12725]

2[Option ID=12726]

3[Option ID=12727]

4[Option ID=12728]

SI. No.83

QBID:1019058

The basic type of random sample is known as simple random sample.

- A. In simple random sampling, each item has an equal chance of being selected.
- B. It protects against bias in the selection process.
- C. It compromises the reliability of the sample.
- D. It provides a basis on which statistical distribution theory can be applied.
- E. It is the other name for purposive sampling.

Choose the correct answer from the options given below :

- (1) A, B and C only
- (2) A, C and D only
- (3) B, C and D only
- (4) A, B and D only

- (1) 1
- (2) 2
- (3) 3
- (4) 4

मूल प्रकार के रैंडम नमूने को साधारण रैंडम नमूने के रूप में जाना जाता है ।

- A. साधारण यादृच्छिक प्रतिचयन में, प्रत्येक वस्तु के चुने जाने की समान संभावना होती है ।
- B. यह चयन प्रक्रिया में पूर्वाग्रह से बचाता है ।
- C. यह नमूने की विश्वसनीयता से समझौता करता है ।
- D. यह आधार प्रदान करता है, जिस पर सांख्यिकीय वितरण सिद्धांत लागू किया जा सकता है ।
- E. यह उद्देश्यपूर्ण प्रतिचयन का दूसरा नाम है ।

नीचे दिए गए विकल्पों में से सही उत्तर का चयन कीजिए :

- (1) केवल A, B और C
- (2) केवल A, C और D
- (3) केवल B, C और D
- (4) केवल A, B और D

- (1) 1
- (2) 2
- (3) 3
- (4) 4

1[Option ID=12729]
2[Option ID=12730]
3[Option ID=12731]
4[Option ID=12732]

Sl. No.84
QBID:1019059

The Khasis are a matrilineal tribe of India.

- A. The Khasis are inhabitants of the State of Meghalaya.
- B. The Khasis practice polygamy.
- C. The Khasis also constitute a patriarchal society.
- D. Amongst the Khasis, the youngest daughter inherits the ancestral property.
- E. The mother's brother plays a significant role in the Khasi society.

Choose the correct answer from the options given below :

- (1) A, B and C only
- (2) B, C and E only
- (3) A, D and E only
- (4) A, C and E only

- (1) 1
- (2) 2
- (3) 3

(4) 4

खासी भारत की एक मातृवंशीय जनजाति है ।

- A. खासी मेघालय राज्य के निवासी हैं ।
- B. खासी बहुविवाह प्रथा का अनुसरण करते हैं ।
- C. खासी पितृसत्तात्मक समाज का भी अनुसरण करते हैं ।
- D. खासी जनजाति में सबसे छोटी बेटी को पैतृक संपत्ति मिलती है ।
- E. खासी समाज में माँ के भाई की अहम भूमिका होती है ।

नीचे दिए गए विकल्पों में से सही उत्तर का चयन कीजिए :

- (1) केवल A, B और C
- (2) केवल B, C और E
- (3) केवल A, D और E
- (4) केवल A, C और E

(1) 1

(2) 2

(3) 3

(4) 4

1[Option ID=12733]

2[Option ID=12734]

3[Option ID=12735]

4[Option ID=12736]

SI. No.85

QBID:1019060

Which of the following options may be associated with modernity ?

- A. Urbanization
- B. Specialized division of labour
- C. Rise of money economy
- D. Dominance of ascribed social status
- E. Repressive laws

Choose the correct answer from the options given below :

- (1) B, C and E only
- (2) A, B and C only
- (3) A, B and E only
- (4) A, C and E only

(1) 1

(2) 2

(3) 3

(4) 4

निम्नलिखित में से कौन-से विकल्प आधुनिकता से संबंधित हैं ?

- A. शहरीकरण
- B. श्रम का विशिष्टीकृत विभाजन
- C. धन अर्थव्यवस्था (मनी इकोनॉमी में वृद्धि
- D. प्रदत्त सामाजिक स्थिति का प्रभुत्व
- E. दमनकारी कानून

नीचे दिए गए विकल्पों में से सही उत्तर का चयन कीजिए :

- (1) केवल B, C और E
- (2) केवल A, B और C
- (3) केवल A, B और E
- (4) केवल A, C और E

(1) 1

(2) 2

(3) 3

(4) 4

1[Option ID=12737]

2[Option ID=12738]

3[Option ID=12739]

4[Option ID=12740]

SI. No.86

QBID:1019061

Given below are two statements :

Statement I :

Independent variables are those that cause, influence or affect outcomes.

Statement II :

Dependent variables stand between the independent and intervening variables.

In the light of the above statements, choose the most appropriate answer from the options given below :

- (1) Both Statement I and Statement II are correct
- (2) Both Statement I and Statement II are incorrect
- (3) Statement I is correct but Statement II is incorrect
- (4) Statement I is incorrect but Statement II is correct

(1) 1

(2) 2

(3) 3

(4) 4

नीचे दो कथन दिए गए हैं :

कथन I :

स्वतंत्र चर वे हैं, जो परिणाम का कारण बनते हैं, उसे परिणाम को प्रभावित करते हैं।

कथन II :

आश्रित, स्वतंत्र और मध्यवर्ती चरों के बीच स्थित होते हैं ।

उपरोक्त कथनों के आलोक में, नीचे दिए गए विकल्पों में से सबसे उपयुक्त उत्तर का चयन कीजिए :

- (1) कथन I और कथन II दोनों सही हैं
- (2) कथन I और कथन II दोनों गलत हैं
- (3) कथन I सही है, लेकिन कथन II गलत है
- (4) कथन I गलत है, लेकिन कथन II सही है

(1) 1

(2) 2

(3) 3

(4) 4

1[Option ID=12741]

2[Option ID=12742]

3[Option ID=12743]

4[Option ID=12744]

SI. No.87

QBID:1019062

Given below are two statements : one is labelled as Assertion A and the other is labelled as Reason R

Assertion A :

Control variables play an active role in quantitative studies.

Reason R :

Control variables are important for the researcher because they potentially influence the dependent variable.

In the light of the above statements, choose the most appropriate answer from the options given below :

- (1) Both A and R are true and R is the correct explanation of A
- (2) Both A and R are true but R is not the correct explanation of A
- (3) A is true but R is false
- (4) A is false but R is true

(1) 1

(2) 2

(3) 3

(4) 4

नीचे दो कथन दिए गए हैं : एक अभिकथन A के रूप में लिखित है तो दूसरा उसके कारण R के रूप में

अभिकथन A :

नियंत्रण चर, मात्रात्मक अध्ययन में सक्रिय भूमिका निभाते हैं ।

कारण R :

नियंत्रण चर, शोधकर्ता के लिए महत्वपूर्ण है क्योंकि वे संभावित रूप से आश्रित चरों को प्रभावित करते हैं ।

उपरोक्त कथनों के आलोक में, नीचे दिए गए विकल्पों में से सबसे उपयुक्त उत्तर का चयन कीजिए :

- (1) A और R दोनों सही हैं और R, A की सही व्याख्या है
- (2) A और R दोनों सही हैं लेकिन R, A की सही व्याख्या नहीं है
- (3) A सही है लेकिन R सही नहीं है
- (4) A सही नहीं है लेकिन R सही है

(1) 1

(2) 2

(3) 3

(4) 4

1[Option ID=12745]

2[Option ID=12746]

3[Option ID=12747]

4[Option ID=12748]

Sl. No.88

QBID:1019063

Given below are two statements : one is labelled as Assertion A and the other is labelled as Reason R

Assertion A :

Complete objectivity is not possible to be attained in sociological research.

Reason R :

Sociological judgments are subjective, being coloured by actors' own experiences.

In the light of the above statements, choose the most appropriate answer from the options given below :

- (1) Both A and R are true and R is the correct explanation of A
- (2) Both A and R are true but R is not the correct explanation of A
- (3) A is true but R is false
- (4) A is false but R is true

(1) 1

(2) 2

(3) 3

(4) 4

नीचे दो कथन दिए गए हैं : एक अभिकथन A के रूप में लिखित है तो दूसरा उसके कारण R के रूप में

अभिकथन A :

समाजशास्त्रीय शोध में पूर्ण वस्तुनिष्ठा (कम्पलीत ऑब्जेक्टिविटी) प्राप्त करना संभव नहीं है ।

कारण R :

सामाजिक निर्णय विषयपरक (सब्जेक्टिव) होते हैं, क्योंकि कर्ता द्वारा इसे स्वयं के अनुभव द्वारा सृजित किया जाता है ।

उपरोक्त कथनों के आलोक में, नीचे दिए गए विकल्पों में से सबसे उपयुक्त उत्तर का चयन कीजिए :

- (1) A और R दोनों सही हैं और R, A की सही व्याख्या है
- (2) A और R दोनों सही हैं लेकिन R, A की सही व्याख्या नहीं है
- (3) A सही है लेकिन R सही नहीं है
- (4) A सही नहीं है लेकिन R सही है

(1) 1

(2) 2

(3) 3

(4) 4

1[Option ID=12749]

2[Option ID=12750]

3[Option ID=12751]

4[Option ID=12752]

Sl. No.89

QBID:1019064

Given below are two statements : one is labelled as Assertion A and the other is labelled as Reason R

Assertion A :

The modernization of Indian tradition did not result in the withering away of caste.

Reason R :

The proliferation of caste associations is proof of the continued significance of caste in modern India.

In the light of the above statements, choose the most appropriate answer from the options given below :

- (1) Both A and R are true and R is the correct explanation of A
- (2) Both A and R are true but R is not the correct explanation of A
- (3) A is true but R is false
- (4) A is false but R is true

- (1) 1
- (2) 2
- (3) 3
- (4) 4

नीचे दो कथन दिए गए हैं : एक अभिकथन A के रूप में लिखित है तो दूसरा उसके कारण R के रूप में

अभिकथन A :

भारतीय परम्परा के आधुनिकीकरण के परिणामस्वरूप जाति क्षीण नहीं हो पाई।

कारण R :

जाति संघों का प्रसार, आधुनिक भारत में जाति के निरंतर महत्व का प्रमाण है ।

उपरोक्त कथनों के आलोक में, नीचे दिए गए विकल्पों में से सबसे उपयुक्त उत्तर का चयन कीजिए :

- (1) A और R दोनों सही हैं और R, A की सही व्याख्या है
- (2) A और R दोनों सही हैं लेकिन R, A की सही व्याख्या नहीं है
- (3) A सही है लेकिन R सही नहीं है
- (4) A सही नहीं है लेकिन R सही है

- (1) 1
- (2) 2
- (3) 3
- (4) 4

- 1[Option ID=12753]
- 2[Option ID=12754]
- 3[Option ID=12755]
- 4[Option ID=12756]

Sl. No.90
QBID:1019065

Given below are two statements : one is labelled as Assertion A and the other is labelled as Reason R

Assertion A :

Caste is a closed status group.

Reason R :

The caste system in India is based on endogamy.

In the light of the above statements, choose the most appropriate answer from the options given below :

- (1) Both A and R are true and R is the correct explanation of A
- (2) Both A and R are true but R is not the correct explanation of A
- (3) A is true but R is false
- (4) A is false but R is true

- (1) 1
- (2) 2
- (3) 3
- (4) 4

नीचे दो कथन दिए गए हैं : एक अभिकथन A के रूप में लिखित है तो दूसरा उसके कारण R के रूप में

अभिकथन A :

जाति एक बंद प्रस्थिति समूह (क्लोज्ड स्टेटस ग्रुप) है ।

कारण R :

भारत में जाति व्यवस्था अंतर्विवाह पर आधारित है ।

उपरोक्त कथनों के आलोक में, नीचे दिए गए विकल्पों में से सबसे उपयुक्त उत्तर का चयन कीजिए :

- (1) A और R दोनों सही हैं और R, A की सही व्याख्या है
- (2) A और R दोनों सही हैं लेकिन R, A की सही व्याख्या नहीं है
- (3) A सही है लेकिन R सही नहीं है
- (4) A सही नहीं है लेकिन R सही है

- (1) 1
- (2) 2
- (3) 3
- (4) 4

1[Option ID=12757]
2[Option ID=12758]
3[Option ID=12759]
4[Option ID=12760]

Sl. No.91
QBID:1019066

The correct chronological sequence of the following options would be :

- A. 74th Constitutional Amendment Act
- B. National Extension Services
- C. Community Development Programme
- D. Ministry of Community Development
- E. Balwant Rai Mehta Committee

Choose the correct answer from the options given below :

- (1) A - C - D - B - E
- (2) C - D - E - B - A
- (3) E - D - C - B - A
- (4) C - B - D - E - A

- (1) 1
- (2) 2

(3) 3

(4) 4

निम्नलिखित विकल्पों को सही कालानुक्रम में व्यवस्थित कीजिए :

- A. 74वां संविधान संशोधन अधिनियम
- B. राष्ट्रीय विस्तार सेवाएँ
- C. सामुदायिक विकास कार्यक्रम
- D. सामुदायिक विकास मंत्रालय
- E. बलवंत राय मेहता समिति

नीचे दिए गए विकल्पों में से सही उत्तर का चयन कीजिए :

- (1) A - C - D - B - E
- (2) C - D - E - B - A
- (3) E - D - C - B - A
- (4) C - B - D - E - A

(1) 1

(2) 2

(3) 3

(4) 4

1[Option ID=12761]

2[Option ID=12762]

3[Option ID=12763]

4[Option ID=12764]

Sl. No.92

QBID:1019067

The correct sequence of the stages of history as outlined by Marx would be

- A. Feudalism
- B. Capitalism
- C. Ancient society
- D. Primitive Communism
- E. Socialism

Choose the correct answer from the options given below :

- (1) D - C - A - B - E
- (2) D - C - E - A - B
- (3) A - B - C - D - E
- (4) C - A - B - D - E

(1) 1

(2) 2

(3) 3

(4) 4

माक्स द्वारा उल्लिखित इतिहास के चरणों का सही क्रम है

- A. सामंतवाद
- B. पूँजीवाद
- C. पुरातन समाज
- D. आदिम साम्यवाद
- E. समाजवाद

नीचे दिए गए विकल्पों में से सही उत्तर का चयन कीजिए :

- (1) D - C - A - B - E
- (2) D - C - E - A - B
- (3) A - B - C - D - E
- (4) C - A - B - D - E

- (1) 1
- (2) 2
- (3) 3
- (4) 4

1[Option ID=12765]

2[Option ID=12766]

3[Option ID=12767]

4[Option ID=12768]

Sl. No.93

QBID:1019068

The correct sequence of the following steps in inductive research would be :

- A. Looking for broad patterns, generalizations or theories from themes or categories
- B. Analyzing data to form themes or categories
- C. Posing generalizations and theories from past experiences and literature
- D. Asking open ended questions to participants or recording field notes
- E. Gathering information

Choose the correct answer from the options given below :

- (1) A - B - C - D - E
- (2) E - D - B - A - C
- (3) D - A - B - C - E
- (4) B - C - A - D - E

- (1) 1
- (2) 2
- (3) 3
- (4) 4

आगमनात्मक (इंडिक्टिव) अनुसंधान में निम्नलिखित चरणों का सही क्रम क्या होगा ?

- A. विषयों या श्रेणियों से व्यापक पैटर्न, सामान्यीकरण या सिद्धांतों को खोजना
- B. विषयों या श्रेणियों को बनाने के लिए आंकड़ों का विश्लेषण करना
- C. पिछले अनुभवों और साहित्य से सामान्यीकरण और सिद्धांतों को प्रस्तुत करना
- D. प्रतिभागियों से अपूर्ण वाक्यवाले प्रश्न (ओपन एंडेड क्वेश्चंस) पूछना या फील्ड नोट रिकार्ड करना
- E. जानकारी एकत्र करना

नीचे दिए गए विकल्पों में से सही उत्तर का चयन कीजिए :

- (1) A - B - C - D - E
- (2) E - D - B - A - C
- (3) D - A - B - C - E
- (4) B - C - A - D - E

(1) 1

(2) 2

(3) 3

(4) 4

1[Option ID=12769]

2[Option ID=12770]

3[Option ID=12771]

4[Option ID=12772]

Sl. No.94

QBID:1019069

Arrange the following options chronologically in terms of their location in the various Five Year Plans :

- A. Industrial Development
- B. Green Revolution
- C. 20-Point Programme
- D. MGNREGA
- E. Sarva Siksha Abhiyaan

Choose the correct answer from the options given below :

- (1) A - B - C - E - D
- (2) A - B - C - D - E
- (3) B - A - C - E - D
- (4) E - A - B - C - D

(1) 1

(2) 2

(3) 3

(4) 4

विभिन्न पंचवर्षीय योजनाओं में उनके स्थान के आधार पर निम्नलिखित विकल्पों को कालक्रम में व्यवस्थित करें :

- A. औद्योगिक विकास
- B. हरित क्रांति
- C. 20 सूत्रीय कार्यक्रम
- D. मनरेगा (MGNREGA)
- E. सर्व शिक्षा अभियान

नीचे दिए गए विकल्पों में से सही उत्तर का चयन कीजिए :

- (1) A - B - C - E - D
- (2) A - B - C - D - E
- (3) B - A - C - E - D
- (4) E - A - B - C - D

- (1) 1
- (2) 2
- (3) 3
- (4) 4

1[Option ID=12773]

2[Option ID=12774]

3[Option ID=12775]

4[Option ID=12776]

Sl. No.95

QBID:1019070

Who is the author of the book, "Capital : A Critique of Political Economy" ?

- (1) Max Weber
- (2) Karl Marx
- (3) Emile Durkheim
- (4) Herbert Spencer

- (1) 1
- (2) 2
- (3) 3
- (4) 4

पुस्तक "कैपिटल : ए क्रिटीक ऑफ पॉलिटिकल इकोनॉमी" के लेखक कौन हैं ?

- (1) मैक्स वेबर
- (2) कार्ल मार्क्स
- (3) इमार्ईल दुर्खाइम
- (4) हर्बर्ट स्पेंसर

- (1) 1

(2) 2

(3) 3

(4) 4

1[Option ID=12777]

2[Option ID=12778]

3[Option ID=12779]

4[Option ID=12780]

Sl. No.96

QBID:1019071

Arrange the following books in the chronological sequence of their year of publication :

- A. Primitive Classification
- B. The Division of Labour in Society
- C. The Rules of Sociological Method
- D. Suicide
- E. The Elementary Forms of Religious Life

Choose the correct answer from the options given below :

- (1) A – B – C – D – E
- (2) B – C – A – D – E
- (3) C – A – B – D – E
- (4) B – C – D – A – E

(1) 1

(2) 2

(3) 3

(4) 4

निम्नलिखित पुस्तकों को उनके प्रकाशन के वर्ष के आधार पर कालक्रमानुसार व्यवस्थित करें :

- A. प्रिमिटिव क्लासिफिकेशन
- B. दि डिविजन ऑफ लेबर इन सोसाइटी
- C. दि रूल्स ऑफ सोशियोलॉजिकल मेथड
- D. सुसाइड
- E. दि एलिमेंटरी फॉर्म ऑफ रिलीजियस लाइफ

नीचे दिए गए विकल्पों में से सही उत्तर का चयन कीजिए :

- (1) A - B - C - D - E
- (2) B - C - A - D - E
- (3) C - A - B - D - E
- (4) B - C - D - A - E

- (1) 1
- (2) 2
- (3) 3
- (4) 4

1[Option ID=12781]
2[Option ID=12782]
3[Option ID=12783]
4[Option ID=12784]

Sl. No.97
QBID:1019072

Given below are two statements : one is labelled as Assertion A and the other is labelled as Reason R

Assertion A :

American society is an example of an achievement-based society.

Reason R :

American society is based on class differentiation rather than on caste.

In the light of the above statements, choose the most appropriate answer from the options given below :

- (1) Both A and R are true and R is the correct explanation of A
- (2) Both A and R are true but R is not the correct explanation of A
- (3) A is true but R is false
- (4) A is false but R is true

(1) 1

(2) 2

(3) 3

(4) 4

नीचे दो कथन दिए गए हैं : एक अभिकथन A के रूप में लिखित है तो दूसरा उसके कारण R के रूप में

अभिकथन A :

अमेरिकी समाज उपलब्धि - आधारित समाज का एक उदाहरण है ।

कारण R :

अमेरिकी समाज जाति के स्थान पर वर्ग विभेदन - आधारित समाज है ।

उपरोक्त कथनों के आलोक में, नीचे दिए गए विकल्पों में से सबसे उपयुक्त उत्तर का चयन कीजिए :

- (1) A और R दोनों सही हैं और R, A की सही व्याख्या है
- (2) A और R दोनों सही हैं लेकिन R, A की सही व्याख्या नहीं है
- (3) A सही है लेकिन R सही नहीं है
- (4) A सही नहीं है लेकिन R सही है

(1) 1

(2) 2

(3) 3

(4) 4

- 1[Option ID=12785]
2[Option ID=12786]
3[Option ID=12787]
4[Option ID=12788]

SI. No.98
QBID:1019073

The emulation of the lifestyle of the twice-born castes, and acceptance of their rites, beliefs, ideas and values, with the objective of moving up in the social hierarchy is referred to as

- (1) Westernization
- (2) Modernization
- (3) Brahmanization
- (4) Sanskritization

- (1) 1
(2) 2
(3) 3
(4) 4

सामाजिक पदानुक्रम में आगे बढ़ने के उद्देश्य से द्विज जातियों की जीवन शैली का अनुकरण, और उनके संस्कारों, विश्वासों, विचारों और मूल्यों की स्वीकृति की व्यवस्था को क्या कहते हैं ?

- (1) पश्चिमीकरण
- (2) आधुनिकीकरण
- (3) ब्राह्मणीकरण
- (4) संस्कृतीकरण

- (1) 1
(2) 2
(3) 3
(4) 4

- 1[Option ID=12789]
2[Option ID=12790]
3[Option ID=12791]
4[Option ID=12792]

SI. No.99
QBID:1019074

The process by which we learn to become members of society, by internalizing the norms and values of society, and also by learning to perform our social roles is referred to as

- (1) Acculturation
- (2) Assimilation
- (3) Socialization
- (4) Accommodation

- (1) 1
- (2) 2
- (3) 3
- (4) 4

वह प्रक्रिया, जिसके द्वारा हम समाज के मानदंडों और मूल्यों को आत्मसात करके समाज के सदस्य बनना सीखते हैं, और अपनी सामाजिक भूमिकाओं को निभाना सीखते हैं, उसको क्या कहते हैं ?

- (1) परसंस्कृतिग्रहण
- (2) आत्मसातीकरण
- (3) समाजीकरण
- (4) समंजन

- (1) 1
- (2) 2
- (3) 3
- (4) 4

1[Option ID=12793]
2[Option ID=12794]
3[Option ID=12795]
4[Option ID=12796]

SI. No.100
QBID:1019075

Given below are two statements : one is labelled as Assertion A and the other is labelled as Reason R

Assertion A :

Political sociology lies at the interface of Sociology and Potitical Science.

Reason R :

Political Sociology is concerned with the social causes and consequences of given power distributions within or between societies.

In the light of the above statements, choose the most appropriate answer from the options given below :

- (1) Both A and R are true and R is the correct explanation of A
- (2) Both A and R are true but R is not the correct explanation of A
- (3) A is true but R is false
- (4) A is false but R is true

- (1) 1
- (2) 2
- (3) 3
- (4) 4

नीचे दो कथन दिए गए हैं : एक अभिकथन (Assertion A) के रूप में लिखित है तो दूसरा उसके कारण (Reason R) के रूप में

अभिकथन A :

राजनीतिक समाजशास्त्र, समाजशास्त्र और राजनीति विज्ञान के इंटरफेस पर आधारित है ।

कारण R :

राजनीतिक समाजशास्त्र, समाजों के भीतर और उनके बीच शक्ति के संवितरण के सामाजिक कारणों और परिणामों से संबंधित है ।

उपरोक्त कथनों के आलोक में, नीचे दिए गए विकल्पों में से सबसे उपयुक्त उत्तर का चयन कीजिए :

- (1) A और R दोनों सही हैं और R, A की सही व्याख्या है
- (2) A और R दोनों सही हैं लेकिन R, A की सही व्याख्या नहीं है
- (3) A सही है लेकिन R सही नहीं है
- (4) A सही नहीं है लेकिन R सही है

(1) 1

(2) 2

(3) 3

(4) 4

1[Option ID=12797]

2[Option ID=12798]

3[Option ID=12799]

4[Option ID=12800]