



(Do not open this Test Booklet until you are asked to do so)
(ଆପଣଙ୍କୁ ନ କୁହା ଯାଇଥିବା ପର୍ଯ୍ୟନ୍ତ ଏହି ଟେଷ୍ଟ ବୁକ୍ଲେଟ୍ ଖୋଲିବେ ନାହେଁ)

Time Allowed : 60 minutes ସମୟ ଅନୁମତି : 60 ମିନିଟ୍	Maximum Marks : 250 ଅଧିକତମ ମାର୍କସ୍ : 250	Total Questions : 60 ମୋଟ ପ୍ରଶ୍ନଗୁଡ଼ିକ : 60	Number of questions to be answered : 50 ଉତ୍ତର ଦେବାକୁଥିବା ପ୍ରଶ୍ନଙ୍କ ସଂଖ୍ୟା : 50
---	---	---	---

Kindly read the instructions given on this Page and Back Page carefully before attempting this Question Paper.

ଏହି ପ୍ରଶ୍ନପତ୍ର ଚେଷ୍ଟା କରିବା ପୂର୍ବରୁ ଏହି ପୃଷ୍ଠାରେ ଏବଂ ପଛ ପୃଷ୍ଠାରେ ଦିଆଯାଇଥିବା ନିର୍ଦ୍ଦେଶାବଳୀଗୁଡ଼ିକ ସାବଧାନୀପୂର୍ବକ ପଢନ୍ତୁ ।

Important Instructions for the Candidates :

- This Test Booklet contains 60 questions printed in English and Odia. Out of these, the candidate is required to answer any 50 questions. If a candidate answers more than 50 questions, the first 50 answered questions will be considered for evaluation.
- When you are given the OMR Answer Sheet, fill in your particulars on it carefully with **blue/black** ball point pen only.
- Use only Blue/Black Ball Point Pen for marking responses.
- The CODE for this Test Booklet is **D**. Make sure that the CODE printed on the OMR Answer Sheet is the same as that on this Test Booklet. Also ensure that your Test Booklet No. and OMR Answer Sheet No. are exactly the same. In case of discrepancy, the candidate should immediately report the matter to the Invigilator for replacement of both the Test Booklet and the OMR Answer Sheet. No claim in this regard will be entertained after five minutes from the start of the examination.
- Before attempting the question paper kindly check that this Test Booklet has total 28 pages and OMR Answer Sheet consists of one sheet. At the start of the examination within first five minutes, candidates are advised to ensure that all pages of Test Booklet and OMR Answer Sheet are properly printed and they are not damaged in any manner.
- Each question has four answer options. Out of these four options choose the **MOST APPROPRIATE OPTION** and darken/blacken the corresponding circle on the OMR Answer Sheet with a Blue/Black Ball Point Pen.
- Five (5) marks will be given for each correct answer. One (1) mark will be deducted for each incorrect answer. If more than one circle is found darkened/blackened for a question, then it will be considered as an incorrect answer. Unanswered questions will be given no mark.

P.T.O.

ପରୀକ୍ଷାର୍ଥୀଙ୍କ ପାଇଁ ଗୁରୁତ୍ୱପୂର୍ଣ୍ଣ ନିର୍ଦ୍ଦେଶ :

- ଏହି ପରୀକ୍ଷା ପୁସ୍ତିକାରେ 60 ଟି ପ୍ରଶ୍ନ ଇଂରାଜୀ ଓ ଓଡ଼ିଆ ମୁଦ୍ରିତ ଅଛି । ଏହାଭିତରୁ, ପରୀକ୍ଷାର୍ଥୀଙ୍କୁ ଯେକୌଣସି 50 ଟି ପ୍ରଶ୍ନ ଉତ୍ତର ଦେବା ଆବଶ୍ୟକ । ଯଦି କୌଣସି ପରୀକ୍ଷାର୍ଥୀ 50 ଟିରୁ ଅଧିକ ପ୍ରଶ୍ନ ଉତ୍ତର ଦେଇଥାଏ, ପ୍ରଥମ 50 ଟି ଉତ୍ତର ଯୁକ୍ତ ମୂଲ୍ୟାୟନ ପାଇଁ ବିବେଚିତ କରାଯିବ ।
- ଆପଣଙ୍କର ବିବରଣୀଗୁଡ଼ିକୁ/ଉତ୍ତର ଗୁଡ଼ିକୁ ବ୍ଲୁ/ବ୍ଲାକ୍ ବଲ୍ ପଏଣ୍ଟ ପେନ୍ ଦ୍ୱାରା OMR ଉତ୍ତର ଫର୍ମରେ ସାବଧାନତାର ସହ ପୂରଣ କରନ୍ତୁ ।
- ଉତ୍ତର ଚିହ୍ନିତ କରିବା ପାଇଁ କେବଳ ବ୍ଲୁ/ବ୍ଲାକ୍ ବଲ୍ ପଏଣ୍ଟ ପେନ୍ ବ୍ୟବହାର କରନ୍ତୁ ।
- ଏହି ପରୀକ୍ଷା ପୁସ୍ତିକାର କୋଡ୍ **D** ଅଟେ । OMR ଉତ୍ତର ଫର୍ମରେ ମୁଦ୍ରିତ କୋଡ୍ ଏବଂ ପରୀକ୍ଷା ପୁସ୍ତିକାର କୋଡ୍ ସମାନ ହେବା ନିଶ୍ଚିତ କରନ୍ତୁ । ଏହା ମଧ୍ୟ ସୁନିଶ୍ଚିତ କରନ୍ତୁ ଯେ ଆପଣଙ୍କର ପରୀକ୍ଷା ପୁସ୍ତିକା ସଂଖ୍ୟା ଏବଂ OMR ଉତ୍ତର ଫର୍ମ ସଂଖ୍ୟା ଅବିକଳ ସମାନ । ଯଦି ଆପଣ ଏହି ଦୁଇଟି ମଧ୍ୟରେ କିଛି ତ୍ରୁଟି ବା ପାର୍ଥକ୍ୟ ଦେଖିବେ ତେବେ ଯଥା ଶୀଘ୍ର ପରୀକ୍ଷକଙ୍କୁ ସୂଚିତ କରନ୍ତୁ । ପରୀକ୍ଷା ଆରମ୍ଭ ହେଇଯିବା 5 ମିନିଟ୍ ପରେ କୌଣସି ପ୍ରକାର ଆବେଦନ ସ୍ୱୀକାର କରାଯିବ ନାହିଁ ।
- ପ୍ରଶ୍ନପତ୍ର ହଲ କରିବା ପୂର୍ବରୁ ଏହା ନିଶ୍ଚିତ କରନ୍ତୁ ଯେ ପରୀକ୍ଷା ପୁସ୍ତିକାରେ ସମ୍ପୂର୍ଣ୍ଣ 28 ପୃଷ୍ଠା ଅଛି ଏବଂ OMR ଉତ୍ତର ଫର୍ମ କେବଳ ଗୋଟିଏ ପୃଷ୍ଠା ଅଟେ । ପରୀକ୍ଷାର ପ୍ରଥମ ପାଞ୍ଚ ମିନିଟ୍, ସମସ୍ତ ପରୀକ୍ଷାର୍ଥୀଙ୍କୁ ସୂଚିତ କରାଯାଉଛି ଯେ ପରୀକ୍ଷା ପୁସ୍ତିକା ଏବଂ OMR ଫର୍ମର ଭଲ ଭାବରେ ମୁଦ୍ରିତ ଅଛି ଏବଂ କୌଣସି ପ୍ରକାର କ୍ଷତି ଖତି ନାହିଁ ।
- ପ୍ରତି ପ୍ରଶ୍ନରେ ଚାରିଟି ବିକଳ୍ପ ଅଛି । ଏହାରୁ ସର୍ବାଧିକ ଉପଯୁକ୍ତ ବିକଳ୍ପକୁ ଚୟନ କରନ୍ତୁ ଏବଂ OMR ଉତ୍ତର ଶୀଟ୍ରେ ସଂଗତିପୂର୍ଣ୍ଣ ଚକ୍ରକୁ କଳା/ନୀଳ ବଲ୍ ପଏଣ୍ଟ ପେନ୍ରେ କଳା କରନ୍ତୁ ।
- ପ୍ରତିଟି ସଠିକ୍ ଉତ୍ତର ପାଇଁ ପାଞ୍ଚ (5) ଅଙ୍କ ଦିଆଯିବ । ପ୍ରତିଟି ଭୁଲ୍ ଉତ୍ତର ପାଇଁ ଏକ (1) ଅଙ୍କ କାଟାଯିବ । ଯଦି ଏକ ପ୍ରଶ୍ନରେ ଗୋଟିଏରୁ ଅଧିକ ଚକ୍ରରେ କଳା କରାହେଇଥିବ ତାହାକୁ ଭୁଲ୍ ଉତ୍ତର ବୋଲି ଗଣାଯିବ । ଯେଉଁ ପ୍ରଶ୍ନର ଉତ୍ତର ନଥିବ ତାହା ପାଇଁ କିଛି ଅଙ୍କ (mark) ଦିଆଯିବ ନାହିଁ । କୃ.ପୃ.ପ.

Name of the Candidate (in Capital Letters) : _____
 ପରୀକ୍ଷାର୍ଥୀଙ୍କ ନାମ (ବଡ଼ ଅକ୍ଷରରେ) : _____

Application Number (in figures) : _____
 ଆବେଦନ ସଂଖ୍ୟା (ଅଙ୍କରେ) : _____

Roll Number (in figures) : _____
 ରୋଲ୍ ନମ୍ବର (ଅଙ୍କରେ) : _____

Centre of Examination (in Capital Letters) : _____
 ପରୀକ୍ଷା କେନ୍ଦ୍ରର ନାମ (ବଡ଼ ଅକ୍ଷରରେ) : _____

Candidate's Signature : _____ Invigilator's Signature : _____
 ପରୀକ୍ଷାର୍ଥୀଙ୍କ ଦସ୍ତଖତ : _____ ପରୀକ୍ଷା ପର୍ଯ୍ୟବେକ୍ଷକଙ୍କ ଦସ୍ତଖତ : _____

Facsimile signature stamp of Centre Superintendent : _____
 କେନ୍ଦ୍ର ସୁପରିଣ୍ଡେଣ୍ଡେଣ୍ଟଙ୍କ ଫାସିମିଲି ସହ (facsimile signature) ଷ୍ଟାମ୍ପ୍ : _____

1. Simplify : $24 \div 4 \times 2 + 8 - 4 = ?$
(1) 1 (2) 7 (3) 16 (4) 56
2. The difference of the greatest and the smallest of the fractions $\frac{1}{2}, \frac{8}{11}, \frac{7}{8}, \frac{7}{9}, \frac{5}{6}$ is :
(1) $\frac{3}{8}$ (2) $\frac{6}{7}$ (3) $\frac{7}{9}$ (4) $\frac{1}{3}$
3. The sum of LCM and HCF of two numbers is 854. If the LCM is 60 times the HCF and one of the numbers is 70, then the other number is
(1) 160 (2) 164 (3) 168 (4) 172
4. The present age of Harish is 8 times the sum of the ages of his two sons at present. After 8 years, his age will be 2 times the sum of the ages of his two sons. The present age of Harish (in years) is :
(1) 31 (2) 32
(3) 33 (4) 34
5. In an examination, it is required to get 300 marks to pass. A student gets 225 marks and is declared fail by 10% marks. What are the maximum marks of the examination ?
(1) 700 (2) 750
(3) 800 (4) 850
6. In a class of 40 students, ratio of boys and girls is 3 : 2 and the average marks scored by boys is 42 and that by girls is 46. Then the average marks scored by the whole class is :
(1) 43.4 (2) 43.6
(3) 43.8 (4) 44
7. The sum of three numbers is 136. If the ratio between the first number and the second number is 2 : 3 and that between the second and the third number is 5 : 3, then the first number is :
(1) 42 (2) 40
(3) 36 (4) 32

1. ସରଳ କରନ୍ତୁ : $24 \div 4 \times 2 + 8 - 4 = ?$
 (1) 1 (2) 7 (3) 16 (4) 56
2. ସବୁଠାରୁ ବଡ଼ ଏବଂ ସବୁଠାରୁ ଛୋଟ ଉତ୍ତର ପାର୍ଥକ୍ୟ $\frac{1}{2}, \frac{8}{11}, \frac{7}{8}, \frac{7}{9}, \frac{5}{6}$ ହେଉଛି :
 (1) $\frac{3}{8}$ (2) $\frac{6}{7}$ (3) $\frac{7}{9}$ (4) $\frac{1}{3}$
3. ଦୁଇଟି ସଂଖ୍ୟାର ଏଲ. ସି. ଏମ. ଏବଂ ଏଚ.ସି.ଏଫ. ର ସମଷ୍ଟି ହେଉଛି 854 । ଯଦି ଏଲ.ସି.ଏମ୍.ଏଚ.ସି.ଏଫ୍. ର 60 ଗୁଣ ଏବଂ ଗୋଟିଏ ସଂଖ୍ୟା 70, ତେବେ ଅନ୍ୟ ସଂଖ୍ୟାଟି ହେଉଛି
 (1) 160 (2) 164 (3) 168 (4) 172
4. ହରିଶଙ୍କ ବର୍ତ୍ତମାନର ବୟସ ତାଙ୍କ ଦୁଇ ପୁଅଙ୍କ ବୟସ ତୁଳନାରେ 8 ଗୁଣ ଅଧିକ । 8 ବର୍ଷ ପରେ ତାଙ୍କ ବୟସ ତାଙ୍କ ଦୁଇ ପୁଅଙ୍କ ବୟସର 2 ଗୁଣ ହେବ । ହରିଶଙ୍କ ବର୍ତ୍ତମାନର ବୟସ (ବର୍ଷରେ) ହେଉଛି
 (1) 31 (2) 32
 (3) 33 (4) 34
5. ପରୀକ୍ଷାରେ ଉତ୍ତୀର୍ଣ୍ଣ ହେବା ପାଇଁ 300 ମାର୍କ ହାସଲ କରିବାକୁ ପଡ଼ିଥାଏ । ଜଣେ ଛାତ୍ର 225 ମାର୍କ ପାଆନ୍ତି ଏବଂ 10 ପ୍ରତିଶତ ମାର୍କରେ ବିଫଳ ଘୋଷିତ ହୁଅନ୍ତି । ପରୀକ୍ଷାର ସର୍ବାଧିକ ମାର୍କ କେତେ ?
 (1) 700 (2) 750
 (3) 800 (4) 850
6. 40 ଜଣ ଛାତ୍ରଛାତ୍ରୀ ଥିବା ଗୋଟିଏ ଶ୍ରେଣୀରେ, ପୁଅ ଏବଂ ଝିଅଙ୍କ ଅନୁପାତ 3 : 2 ଏବଂ ପୁଅମାନଙ୍କ ଦ୍ଵାରା ହାରାହାରି ମାର୍କ 42 ଏବଂ ଝିଅମାନଙ୍କ ଦ୍ଵାରା ହାରାହାରି ମାର୍କ 46, ତେବେ ସମଗ୍ର ଶ୍ରେଣୀ ଦ୍ଵାରା ହାରାହାରି ମାର୍କ ହେଉଛି :
 (1) 43.4 (2) 43.6
 (3) 43.8 (4) 44
7. ତିନୋଟି ସଂଖ୍ୟାର ସମଷ୍ଟି ହେଉଛି 136 । ଯଦି ପ୍ରଥମ ସଂଖ୍ୟା ଏବଂ ଦ୍ଵିତୀୟ ସଂଖ୍ୟା ମଧ୍ୟରେ ଅନୁପାତ 2 : 3 ଏବଂ ଦ୍ଵିତୀୟ ଏବଂ ତୃତୀୟ ସଂଖ୍ୟା ମଧ୍ୟରେ ଅନୁପାତ 5 : 3, ତେବେ ପ୍ରଥମ ସଂଖ୍ୟାଟି ହେଉଛି :
 (1) 42 (2) 40
 (3) 36 (4) 32

8. An item is sold for ₹ 504 after allowing 20% discount and still a profit of 5% has been earned. The marked price is how much more than the cost price ?
- (1) ₹ 120 (2) ₹ 135
(3) ₹ 150 (4) ₹ 160
9. A certain sum becomes ₹ 2,356 in 3 years and ₹ 2,660 in 5 years on simple interest. The value of sum is :
- (1) ₹ 1,800 (2) ₹ 1,880 (3) ₹ 1,900 (4) ₹ 1,980
10. In a square, lengths of the diagonals are $(4k + 6)$ cm and $(7k - 3)$ cm. The area of the square (in cm^2) is :
- (1) 144 (2) 162 (3) 169 (4) 172
11. The volume of a cylinder having base radius 3 cm is 396 cm^3 . Find its curved surface area (in cm^2).
(Use $\pi = \frac{22}{7}$)
- (1) 280 (2) 301.5 (3) 264 (4) 320.6
12. A tap can fill a tank in 6 hours. After half the tank is filled, three more similar taps are opened. What is the total time taken to fill the tank completely ?
- (1) 4 hours (2) 5 hours
(3) 3 hours 30 minutes (4) 3 hours 45 minutes
13. A train running at the speed of 80 km/h crosses a 350 m long tunnel in 36 seconds. The length of the train (in m) is
- (1) 350 (2) 380 (3) 420 (4) 450
14. If the mean of 3, 4, 9, $2k$, 10, 8, 6 and $(k + 6)$ is 8, and mode of 2, 2, 3, $2p$, $(2p + 1)$, 4, 4, 5 and 6 (p is a natural number) is 4, then the value of $(k - 2p)$ is :
- (1) 0 (2) 1 (3) 2 (4) 3
15. In triangle ABC, points D and E are on AB and AC respectively such that DE is parallel to BC. If $AD = 6$ cm, $DB = 4$ cm, $AE = 9$ cm, then the length of EC (in cm) is
- (1) 7 (2) 6.4 (3) 6 (4) 5.5

8. ଯଦି 20 ପ୍ରତିଶତ ରିହାତି ଅନୁମତି ଦେବା ପରେ କୌଣସି ଜିନିଷ 504 ଟଙ୍କାରେ ବିକ୍ରି ହୁଏ ଏବଂ ତଥାପି 5 ପ୍ରତିଶତ ଲାଭ ଅର୍ଜନ କରାଯାଏ। ଚିହ୍ନିତ ମୂଲ୍ୟ, ମୂଲ୍ୟ ଠାରୁ କେତେ ଅଧିକ ?
- (1) 120 ଟଙ୍କା (2) 135 ଟଙ୍କା (3) 150 ଟଙ୍କା (4) 160 ଟଙ୍କା
9. ଗୋଟିଏ ନିର୍ଦ୍ଦିଷ୍ଟ ରାଶି 3 ବର୍ଷରେ 2,356 ଟଙ୍କା ଏବଂ ସରଳ ସୁଧ ଉପରେ 5 ବର୍ଷରେ 2,660 ଟଙ୍କା ହୋଇଯାଏ। ଏହି ରାଶିଟି ହେଉଛି
- (1) 1,800 ଟଙ୍କା (2) 1,880 ଟଙ୍କା (3) 1,900 ଟଙ୍କା (4) 1,980 ଟଙ୍କା
10. ଗୋଟିଏ ବର୍ଗରେ, ତିର୍ଯ୍ୟକଗୁଡ଼ିକର ଲମ୍ବ $(4k + 6)$ ସେ.ମି. ଏବଂ $(7k - 3)$ ସେ.ମି. ହୋଇଥାଏ । ବର୍ଗକ୍ଷେତ୍ରର କ୍ଷେତ୍ରଫଳ (ସେ.ମି.² ରେ) ହେଉଛି
- (1) 144 (2) 162 (3) 169 (4) 172
11. ଆଧାର ବ୍ୟାସାର୍ଦ୍ଧ 3 ସେ.ମି. ଥିବା ଏକ ସିଲିଣ୍ଡରର ଆୟତନ ହେଉଛି 396 ସେ.ମି.³ । ଏହାର ବକ୍ର ପୃଷ୍ଠଭାଗର କ୍ଷେତ୍ରଫଳ ଖୋଜନ୍ତୁ (ସେ.ମି.²ରେ) । ($\pi = \frac{22}{7}$ ବ୍ୟବହାର କରନ୍ତୁ)
- (1) 280 (2) 301.5 (3) 264 (4) 320.6
12. ଏକ ଟ୍ୟାକ୍ସି 6 ଘଣ୍ଟା ମଧ୍ୟରେ ଏକ ଟ୍ୟାକ୍ସି ଭରିପାରେ । ଅଧା ଟ୍ୟାକ୍ସି ଭରିବା ପରେ, ଆଉ ତିନୋଟି ସମାନ ଟ୍ୟାକ୍ସି ଖୋଲାଯାଏ । ଟ୍ୟାକ୍ସିକୁ ପୁରା ଭରିବା ପାଇଁ ସମୁଦାୟ ସମୟ କ'ଣ ?
- (1) 4 ଘଣ୍ଟା (2) 5 ଘଣ୍ଟା
(3) 3 ଘଣ୍ଟା 30 ମିନିଟ୍ (4) 3 ଘଣ୍ଟା 45 ମିନିଟ୍
13. ଘଣ୍ଟା ପ୍ରତି 80 କି.ମି. ବେଗରେ ଚାଲୁଥିବା ଏକ ଟ୍ରେନ୍ 36 ସେକେଣ୍ଡରେ 350 ମିଟର ଲମ୍ବ ସ୍ତମ୍ଭ ଅତିକ୍ରମ କରିଥାଏ । ଟ୍ରେନ୍ ଲମ୍ବ (ମିଟର ରେ) ହେଉଛି
- (1) 350 (2) 380 (3) 420 (4) 450
14. ଯଦି 3, 4, 9, $2k$, 10, 8, 6 ଏବଂ $(k + 6)$ ର ହାରାହାରି 8, ଏବଂ 2, 2, 3, $2p$, $(2p + 1)$, 4, 4, 5 ଏବଂ 6 (p ଏକ ପ୍ରାକୃତିକ ସଂଖ୍ୟା) ର ମୋଟ 4, ତେବେ $(k - 2p)$ ର ମୂଲ୍ୟ
- (1) 0 (2) 1 (3) 2 (4) 3
15. ତ୍ରିଭୁଜ ABC ରେ, ବିନ୍ଦୁ D ଏବଂ E ଯଥାକ୍ରମେ AB ଏବଂ AC ରେ ଏପରି ଥାଏ ଯେ DE ସହିତ ସମାନ୍ତରାଳ ହୋଇଥାଏ BC । ଯଦି $AD = 6$ ସେ.ମି., $DB = 4$ ସେ.ମି., $AE = 9$ ସେ.ମି., ତେବେ EC ର ଲମ୍ବ (ସେ.ମି. ରେ) ହେଉଛି :
- (1) 7 (2) 6.4 (3) 6 (4) 5.5

16. If $\sin A = \frac{4}{5}$, then $(3 - \tan A)(2 + \cos A) =$

- (1) $\frac{12}{5}$ (2) $\frac{13}{3}$ (3) $\frac{13}{5}$ (4) 3

17. A man can row a boat at 8 km/h in still water. If the speed of the water current is 2 km/h and it takes him 2 hours to row to a place and come back, then how far off (in km) is the place ?

- (1) 7.5 (2) 6 (3) 9.5 (4) 10

18. From the given options, which pass connects Jammu with Srinagar ?

- (1) Banihal pass (2) Nathu La pass
(3) Niti pass (4) Rohtang pass

19. Which of the following is **not** correctly matched regarding Padma Awards-2024 ?

- (1) Padma Vibhushan Award → Shri Konidela Chiranjeevi
(2) Padma Shri Award → Mithun Chakraborty
(3) Padma Bhushan Award → M. Fathima Beevi
(4) Padma Bhushan Award → Sitaram Jindal

20. Match List-I with List-II :

List-I Person	List-II Area of work
(A) Vishakhadatta	(I) Medicine
(B) Kartikeya Sarabhai	(II) Poet
(C) Charaka	(III) Environmentalist
(D) Satyendra Nath Bose	(IV) Mathematics

Choose the correct answer from the options given below.

- (1) (A) - (I), (B) - (III), (C) - (IV), (D) - (II)
(2) (A) - (II), (B) - (III), (C) - (I), (D) - (IV)
(3) (A) - (II), (B) - (I), (C) - (III), (D) - (IV)
(4) (A) - (III), (B) - (IV), (C) - (I), (D) - (II)

16. ଯଦି $\sin A = \frac{4}{5}$, ତେବେ $(3 - \tan A)(2 + \cos A) =$

- (1) $\frac{12}{5}$ (2) $\frac{13}{3}$ (3) $\frac{13}{5}$ (4) 3

17. ଜଣେ ବ୍ୟକ୍ତି ସ୍ଥିର ଜଳରେ ଘଣ୍ଟାପ୍ରତି 8 କି.ମି. ବେଗରେ ତଙ୍ଗା ଚଳାଇ ପାରିବେ । ଯଦି ଜଳ ସ୍ରୋତର ବେଗ ଘଣ୍ଟା ପ୍ରତି 2 କି.ମି. ହୋଇଥାଏ ଏବଂ ଗୋଟିଏ ସ୍ଥାନକୁ ଫେରି ଆସିବା ପାଇଁ ତାଙ୍କୁ 2 ଘଣ୍ଟା ଲାଗିଥାଏ, ତେବେ ସେହି ସ୍ଥାନ କେତେ ଦୂରରେ (କି.ମି. ରେ) ଅଛି ?

- (1) 7.5 (2) 6 (3) 9.5 (4) 10

18. ଦିଆଯାଇଥିବା ବିକଳ୍ପ ମଧ୍ୟରୁ କେଉଁ ପାଞ୍ଚ ଜାନ୍ତୁକୁ ଶ୍ରୀନଗର ସହିତ ସଂଯୋଗ କରେ ?

- (1) ବନିହାଲ ପାସ୍ (2) ନାଥୁଲା ପାସ୍ (3) ନୀତି ପାସ୍ (4) ରୋହତଙ୍ଗ ପାସ୍

19. ପଦ୍ମ ପୁରସ୍କାର-2024 ସମ୍ବନ୍ଧରେ ନିମ୍ନଲିଖିତ ମଧ୍ୟରୁ କେଉଁ ବିବୃତି ସଠିକ୍ ଭାବରେ ମେଳ ଖାଉନାହିଁ ?

- (1) ପଦ୍ମ ବିଭୂଷଣ ପୁରସ୍କାର → ଶ୍ରୀ କୋନିଡେଲା ଚିରଞ୍ଜୀବୀ
 (2) ପଦ୍ମଶ୍ରୀ ପୁରସ୍କାର → ମିଥୁନ ଚକ୍ରବର୍ତ୍ତୀ
 (3) ପଦ୍ମ ଭୂଷଣ ପୁରସ୍କାର → ଏମ୍. ପାତିମା ବିବି
 (4) ପଦ୍ମ ଭୂଷଣ ପୁରସ୍କାର → ସୀତାରାମ ଜିନ୍ଦଲ

20. ମ୍ୟାଚ୍ ତାଲିକା-I ସହିତ ତାଲିକା-II :

ତାଲିକା-I ବ୍ୟକ୍ତି	ତାଲିକା-II କାର୍ଯ୍ୟକ୍ଷେତ୍ର
(A) ବିଶ୍ୱାଖଦତ୍ତ	(I) ଔଷଧ
(B) କାର୍ତ୍ତିକେୟ ସାରଭାଇ	(II) କବି
(C) ଚରକ	(III) ପରିୟାବରଣବିଦ
(D) ସତ୍ୟେନ୍ଦ୍ର ନାଥ ବୋଷ	(IV) ଗଣିତ

ନିମ୍ନରେ ଦିଆଯାଇଥିବା ବିକଳ୍ପଗୁଡ଼ିକ ମଧ୍ୟରୁ ସଠିକ୍ ଉତ୍ତର ବାଛିନ୍ତୁ :

- (1) (A) - (I), (B) - (III), (C) - (IV), (D) - (II) (2) (A) - (II), (B) - (III), (C) - (I), (D) - (IV)
 (3) (A) - (II), (B) - (I), (C) - (III), (D) - (IV) (4) (A) - (III), (B) - (IV), (C) - (I), (D) - (II)

21. The following states were formed after 1960. What was the correct sequence of their formation ?

- (A) Haryana (B) Sikkim
(C) Nagaland (D) Goa

Choose the correct answer from the options given below.

- (1) (C), (B), (A), (D) (2) (C), (A), (B), (D)
(3) (C), (D), (A), (B) (4) (D), (C), (A), (B)

22. Out of the given options, which scheme's objective is to conduct an annual survey at the gram panchayat level to monitor the progress in the development process of rural areas ?

- (1) Mission Antyodaya (2022-23) (2) Mission Karmayogi (2022-23)
(3) Mission Rashtriya Gokul (2022-23) (4) Mission Atmanirbhar Bharat (2022-23)

23. Which one of the following countries is **not** a member of the "Quadrilateral Security Dialogue", also known as "QUAD" ?

- (1) China (2) Japan
(3) India (4) Australia

24. Who has become the first woman chairperson of the Railway Board of Indian Railways in 2023 ?

- (1) Jaya Verma Sinha (2) Mita Vashishth
(3) Ravneet Kaur (4) Vasudha Gupta

25. Match List-I with List-II :

List-I Country	List-II Currency
(A) Myanmar	(I) Ruble
(B) Russia	(II) Ngultrum
(C) Malaysia	(III) Kyat
(D) Bhutan	(IV) Ringgit

Choose the correct answer from the options given below.

- (1) (A) - (III), (B) - (I), (C) - (II), (D) - (IV)
(2) (A) - (III), (B) - (I), (C) - (IV), (D) - (II)
(3) (A) - (IV), (B) - (I), (C) - (III), (D) - (II)
(4) (A) - (II), (B) - (I), (C) - (IV), (D) - (III)

21. 1960 ମସିହା ପରେ ନିମ୍ନଲିଖିତ ରାଜ୍ୟଗୁଡ଼ିକ ଗଠନ କରାଯାଇଥିଲା। ସେମାନଙ୍କର ଗଠନର ସଠିକ୍ କ୍ରମ କ'ଣ ଥିଲା ?

- (A) ହରିୟାଣା (B) ସିକିମ୍ (C) ନାଗାଲାଣ୍ଡ (D) ଗୋଆ

ନିମ୍ନରେ ଦିଆଯାଇଥିବା ବିକଳଗୁଡ଼ିକ ମଧ୍ୟରୁ ସଠିକ୍ ଉତ୍ତର ବାଛିନ୍ତୁ :

- (1) (C), (B), (A), (D) (2) (C), (A), (B), (D)
(3) (C), (D), (A), (B) (4) (D), (C), (A), (B)

22. ଦିଆଯାଇଥିବା ବିକଳଗୁଡ଼ିକ ମଧ୍ୟରୁ କେଉଁ ଯୋଜନାର ଉଦ୍ଦେଶ୍ୟ ହେଉଛି ଗ୍ରାମାଞ୍ଚଳର ବିକାଶ ପ୍ରକ୍ରିୟାରେ ଅଗ୍ରଗତି ଉପରେ ନଜର ରଖିବା ପାଇଁ ଗ୍ରାମ ପଞ୍ଚାୟତ ସ୍ତରରେ ଏକ ବାର୍ଷିକ ସର୍ବେକ୍ଷଣ କରିବା ?

- (1) ମିଶନ ଅନ୍ତରାଳ (2022-23) (2) ମିଶନ କର୍ମଯୋଗୀ (2022-23)
(3) ମିଶନ ରାଷ୍ଟ୍ରୀୟ ଗୋକୁଳ (2022-23) (4) ମିଶନ ଆତ୍ମନିର୍ଭର ଭାରତ (2022-23)

23. ନିମ୍ନଲିଖିତ ଦେଶଗୁଡ଼ିକ ମଧ୍ୟରୁ କେଉଁଟି "ଚତୁର୍ଭୁଜ ସୁରକ୍ଷା ବାଉଁଶ" ର ସଦସ୍ୟ ନୁହେଁ, ଯାହାକୁ "କ୍ୱାଡ" ମଧ୍ୟ କୁହାଯାଏ ?

- (1) ଚୀନ (2) ଜାପାନ (3) ଭାରତ (4) ଅଷ୍ଟ୍ରେଲିଆ

24. 2023 ରେ "ଭାରତୀୟ ରେଳବାଇ ବୋର୍ଡ" ର ପ୍ରଥମ ମହିଳା ଚେୟାରମ୍ୟାନ୍ କିଏ ହୋଇଛନ୍ତି ?

- (1) ଜୟା ବର୍ମା ସିଂହା (2) ମିତା ବଶିଷ୍ଠ (3) ରବନୀତ କୌର (4) ବସୁଧା ଗୁପ୍ତା

25. ମ୍ୟାଚ୍ ତାଲିକା-I ସହିତ ତାଲିକା-II :

ତାଲିକା-I ଦେଶଗୁଡ଼ିକ	ତାଲିକା-II ମୁଦ୍ରା
(A) ମିଆଁମାର	(I) ରୁବଲ୍
(B) ରୁଷିଆ	(II) ନୁଲଗ୍ରମ୍
(C) ମାଲେସିଆ	(III) କୟାର୍
(D) ଭୁଟାନ	(IV) ରିଙ୍ଗିଟ୍

ନିମ୍ନରେ ଦିଆଯାଇଥିବା ବିକଳଗୁଡ଼ିକ ମଧ୍ୟରୁ ସଠିକ୍ ଉତ୍ତର ବାଛିନ୍ତୁ :

- (1) (A) - (III), (B) - (I), (C) - (II), (D) - (IV) (2) (A) - (III), (B) - (I), (C) - (IV), (D) - (II)
(3) (A) - (IV), (B) - (I), (C) - (III), (D) - (II) (4) (A) - (II), (B) - (I), (C) - (IV), (D) - (III)

SPACE FOR ROUGH WORK

26. "Jhulaghat Suspension Bridge" between India and which country has become fully operational now ?
- (1) Bhutan (2) Nepal
(3) China (4) Myanmar
27. Due to ocean acidification when the ocean becomes more acidic, what happens to the pH level of the ocean ?
- (1) The pH level goes down.
(2) The pH level stays the same.
(3) The pH level goes up.
(4) The pH level becomes zero.
28. Who is the first para-athlete to receive the Padma Bhushan award in India ?
- (1) Bhavina Patel
(2) Devendra Jhajharia
(3) Avani Lekhara
(4) Mariyappan Thangavelu
29. Zemu Glacier is located in which state of India ?
- (1) Uttarakhand (2) Himachal Pradesh
(3) Sikkim (4) Arunachal Pradesh
30. Who among the following is Chile's first woman President ?
- (1) Mary Robinson
(2) Michelle Bachelet
(3) Kim Campbell
(4) Jennifer Shipley
31. Which organisation developed and launched 'Ugram' Indigenous Assault Rifle for the armed forces ?
- (1) ISRO (2) BEL
(3) HAL (4) DRDO
32. Which of the following substances is a bad conductor of electricity ?
- (1) Diamond (2) Gold (3) Silver (4) Graphite

SPACE FOR ROUGH WORK

26. ଭାରତ ଏବଂ କେଉଁ ଦେଶ ମଧ୍ୟରେ "ଝୁଲାଇତା ସଂସ୍ପନ୍ଦନ ତ୍ରିଭୁ" ବର୍ତ୍ତମାନ ସମ୍ପୂର୍ଣ୍ଣ କାର୍ଯ୍ୟକ୍ଷମ ହୋଇଛି ?
 (1) ଭୁଟାନ (2) ନେପାଳ (3) ଚୀନ (4) ମାୟାନମାର
27. ମହାସାଗରର ଆମ୍ଳୀକରଣ କାରଣରୁ ଯେତେବେଳେ ସମୁଦ୍ର ଅଧିକ ଅମ୍ଳୀୟ ହୋଇଯାଏ, ସେତେବେଳେ ମହାସାଗରର pH ସ୍ତର କି "ଶ ହୁଏ ?
 (1) pH ସ୍ତର ତଳକୁ ଖସିଯାଏ । (2) pH ସ୍ତର ସମାନ ରହିଥାଏ ।
 (3) pH ସ୍ତର ବୃଦ୍ଧି ପାଇଥାଏ । (4) pH ସ୍ତର ଶୂନ୍ୟ ହୋଇଯାଏ ।
28. ଭାରତରେ ପଦ୍ମ ଭୂଷଣ ପୁରସ୍କାର ପାଇବାରେ ପ୍ରଥମ ପାରା-ଆଥଲେଟିକ୍ କିଏ ?
 (1) ଭାବିନୀ ପଟେଲ (2) ଦେବେନ୍ଦ୍ର ଝାଝରିୟା
 (3) ଅବନୀ ଲେଖରା (4) ମାରିୟସନ ଆଜାଡେଲୁ
29. ଜେମୁ ଗ୍ଲୋସିୟର ଭାରତର କେଉଁ ରାଜ୍ୟରେ ଅବସ୍ଥିତ ?
 (1) ଉତ୍ତରାଖଣ୍ଡ (2) ହିମାଚଳ ପ୍ରଦେଶ
 (3) ସିକିମ୍ (4) ଅରୁଣାଚଳ ପ୍ରଦେଶ
30. ନିମ୍ନଲିଖିତମାନଙ୍କ ମଧ୍ୟରୁ ଚିଲିର ପ୍ରଥମ ମହିଳା ରାଷ୍ଟ୍ରପତି କିଏ ?
 (1) ମେରୀ ରବିନସନ (2) ମିଶେଲ ବାଚେଲେଟ
 (3) କିମ୍ କନ୍ୟାସବେଲ୍ (4) ଜେନିଫର୍ ସିପ୍ଲି
31. କିଏ ଭାରତୀୟ ସେନା ପାଇଁ 'ଉଗ୍ରମ୍' ସ୍ୱଦେଶୀ ଆକ୍ରମଣ ର ଆରମ୍ଭ କରିଥିଲେ ?
 (1) ଆଇ.ଏସ୍.ଆର୍.ଓ. (2) ବି.ଇ.ଏଲ.
 (3) ଏର୍.ଏ.ଏଲ୍. (4) ଡି.ଆର୍.ଡି.ଓ.
32. ନିମ୍ନଲିଖିତ ପଦାର୍ଥଗୁଡ଼ିକ ମଧ୍ୟରୁ କେଉଁଟି ବିଦ୍ୟୁତର ଖରାପ ପରିବାହୀ ?
 (1) ହୀରା (2) ସୁନା (3) ରୂପା (4) ଗ୍ରାଫାଇଟ୍

33. Which of the following disease is caused due to the deficiency of proteins ?

- (1) Arthritis (2) Kwashiorkor
(3) Goitre (4) Night Blindness

34. Match List-I with List-II :

List-I Navy (Institution)	List-II Place
(A) INS Chilka	(I) Goa
(B) INS Hansa	(II) Andhra Pradesh
(C) INS Satavahana	(III) Kerala
(D) INS Garuda	(IV) Odisha

Choose the correct answer from the options given below.

- (1) (A) - (III), (B) - (I), (C) - (II), (D) - (IV)
(2) (A) - (I), (B) - (IV), (C) - (II), (D) - (III)
(3) (A) - (IV), (B) - (I), (C) - (III), (D) - (II)
(4) (A) - (IV), (B) - (I), (C) - (II), (D) - (III)

35. DRDO has conducted the first successful flight test of Agni-5 missile equipped with MIRV technology. What is the full form of MIRV ?

- (1) Multiple Independently Targetable Re-Entry Vehicle
(2) Mission India Target Re-Entry Vehicle
(3) Multiple Independently Technology Re-Entry Vehicle
(4) Multiple Indirect Targetable Re-Entry vehicle

36. Which Indian has won the "Ramon Magsaysay Award-2023" ?

- (1) Korvi Rakshand
(2) Ashwini Kumar
(3) Dipti Ranjan Sahoo
(4) Dr. Ravi Kannan R.

33. ନିମ୍ନଲିଖିତ ରୋଗଗୁଡ଼ିକ ମଧ୍ୟରୁ କେଉଁଟି ପ୍ରୋଟିନ୍ ଅଭାବରୁ ହୋଇଥାଏ ?

- (1) ଆର୍ଥ୍ରାଇଟିସ୍ (2) କ୍ଲାଶିଓକୋର (3) ଗୋଇଚର (4) ରାତ୍ରିକାଳୀନ ଅନ୍ଧତା

34. ମ୍ୟାଟ୍ ତାଲିକା-I ସହିତ ତାଲିକା-II :

ତାଲିକା-I ନୌସେନା (ପ୍ରତିଷ୍ଠାନ)	ତାଲିକା-II ସ୍ଥାନ
(A) ଆଇ.ଏନ୍.ଏସ୍.ଟିକ୍କା	(I) ଗୋଆ
(B) ଆଇ.ଏନ୍.ଏସ୍.ହଂସା	(II) ଆନ୍ଧ୍ର ପ୍ରଦେଶ
(C) ଆଇ.ଏନ୍.ଏସ୍. ସାତବାହନ	(III) କେରଳ
(D) ଆଇ.ଏନ୍.ଏସ୍. ଗରୁଡ଼	(IV) ଓଡ଼ିଶା

ନିମ୍ନରେ ଦିଆଯାଇଥିବା ବିକଳଗୁଡ଼ିକ ମଧ୍ୟରୁ ସଠିକ୍ ଉତ୍ତର ବାଛିନ୍ତୁ :

- (1) (A) - (III), (B) - (I), (C) - (II), (D) - (IV) (2) (A) - (I), (B) - (IV), (C) - (II), (D) - (III)
 (3) (A) - (IV), (B) - (I), (C) - (III), (D) - (II) (4) (A) - (IV), (B) - (I), (C) - (II), (D) - (III)

35. DRDO MIRV ଟେକ୍ନୋଲୋଜି ସହିତ ସଞ୍ଚିତ ଅଗ୍ନି-5 କ୍ଷେପଣାସ୍ତ୍ରର ପ୍ରଥମ ସଫଳ ବିମାନ ପରୀକ୍ଷା କରିଛି ।
MIRV ର ସମ୍ପୂର୍ଣ୍ଣ ରୂପ କ'ଣ ?

- (1) Multiple Independently Targetable Re-Entry Vehicle
 (2) Mission India Target Re-Entry Vehicle
 (3) Multiple Independently Technology Re-Entry Vehicle
 (4) Multiple Indirect Targetable Re-Entry vehicle

36. କେଉଁ ଭାରତୀୟ "ରାମୋନ୍ ମାଗସେସେ ପୁରସ୍କାର-2023" ପାଇଛନ୍ତି ?

- (1) କୋରଭି ରକ୍ଷକ (2) ଅଶ୍ୱିନୀ କୁମାର
 (3) ଦୀପ୍ତି ରଞ୍ଜନ ସାହୁ (4) ଡ. ରବି କନ୍ଦନ ଆର.

37. Who has been appointed the Chairman of the 16th Finance Commission of India ?

- (1) Ajay Narayan Jha
- (2) Smt. Annie George Mathew
- (3) Pradip Kumar Mohanty
- (4) Dr. Arvind Panagariya

38. Sri Ranganathswamy Temple which is situated in Tamil Nadu, is dedicated to which deity ?

- (1) Lord Shiva
- (2) Lord Vishnu
- (3) Goddess Durga
- (4) Goddess Lakshmi

39. The Election Commission of India gets the power to conduct elections from which of the following articles ?

- | | |
|-----------------|-----------------|
| (1) Article 324 | (2) Article 280 |
| (3) Article 264 | (4) Article 26 |

40. Match List-I with List-II :

List-I Centre of Handicraft	List-II State
(A) Mon	(I) Arunachal Pradesh
(B) Nalbari	(II) Assam
(C) Pasighat	(III) Meghalaya
(D) Tura	(IV) Nagaland

Choose the correct answer from the options given below.

- (1) (A) - (IV), (B) - (II), (C) - (I), (D) - (III)
- (2) (A) - (I), (B) - (III), (C) - (IV), (D) - (II)
- (3) (A) - (IV), (B) - (III), (C) - (I), (D) - (II)
- (4) (A) - (I), (B) - (II), (C) - (IV), (D) - (III)

37. 16ତମ ଭାରତୀୟ ଅର୍ଥ ଆୟୋଗର ଅଧକ୍ଷ ଭାବେ କିଏ ନିଯୁକ୍ତ ହୋଇଛନ୍ତି ?

- (1) ଅଜୟ ନାରାୟଣ ଝା (2) ଶ୍ରୀମତୀ ଆନି ଜର୍ଜ ମାଥୁ
(3) ପ୍ରଦୀପ କୁମାର ମହାନ୍ତି (4) ଡ. ଅରବିନ୍ଦ ପାନାଗାରିଆ

38. ତାମିଲନାଡୁରେ ଅବସ୍ଥିତ ଶ୍ରୀ ରଙ୍ଗନାଥସ୍ୱାମୀ ମନ୍ଦିର କେଉଁ ଦେବତାଙ୍କୁ ସମର୍ପିତ ?

- (1) ଭଗବାନ ଶିବ (2) ଭଗବାନ ବିଷ୍ଣୁ
(3) ଦେବୀ ଦୁର୍ଗା (4) ଦେବୀ ଲକ୍ଷ୍ମୀ

39. ଭାରତର ନିର୍ବାଚନ ଆୟୋଗ ନିମ୍ନଲିଖିତ କେଉଁ ଅନୁଚ୍ଛେଦରୁ ନିର୍ବାଚନ ପରିଚାଳନା କରିବାର କ୍ଷମତା ପାଇଛନ୍ତି ?

- (1) ଧାରା 324 (2) ଧାରା 280
(3) ଧାରା 264 (4) ଧାରା 26

40. ମ୍ୟାଚ୍ ତାଲିକା-I ସହିତ ତାଲିକା-II :

ତାଲିକା-I ହସ୍ତଶିଳ୍ପ କେନ୍ଦ୍ର	ତାଲିକା-II ରାଜ୍ୟ
(A) ମୋନ	(I) ଅରୁଣାଚଳ ପ୍ରଦେଶ
(B) ନଲବାରୀ	(II) ଆସାମ
(C) ପାସିଘାଟ	(III) ମେଘାଳୟ
(D) ତୁରା	(IV) ନାଗାଲାଣ୍ଡ

ନିମ୍ନରେ ଦିଆଯାଇଥିବା ବିକଳଗୁଡ଼ିକ ମଧ୍ୟରୁ ସଠିକ୍ ଉତ୍ତର ବାଛନ୍ତୁ :

- (1) (A) - (IV), (B) - (II), (C) - (I), (D) - (III)
(2) (A) - (I), (B) - (III), (C) - (IV), (D) - (II)
(3) (A) - (IV), (B) - (III), (C) - (I), (D) - (II)
(4) (A) - (I), (B) - (II), (C) - (IV), (D) - (III)

SPACE FOR ROUGH WORK

41. In which state is “Amchang Wildlife Sanctuary” located ?
- (1) Assam (2) Rajasthan
(3) Odisha (4) Manipur
42. India’s first 3D-printed Post Office has been inaugurated in :
- (1) Guwahati (2) Kolkata
(3) Mumbai (4) Bengaluru
43. What should come in the place of the question mark (?) in the following alphanumeric series ?
- A1X, B4P, E25J, J100F, ?
- (1) O289D (2) O225E
(3) Q289D (4) Q225E
44. In the given analogy, choose the word which will replace the question mark :
- NEGI : MVTR :: SING : ?
- (1) TRNS (2) TRNT
(3) FRMT (4) HRMT
45. In a certain code language ‘ki ru pi’ means ‘nobody like cruel’, ‘ki mi cha’ means ‘king was cruel’ and ‘ru pi cha’ means ‘nobody like king’. What is the code for ‘was’ in the given code language ?
- (1) ki (2) mi
(3) cha (4) ru
46. Read the following information carefully to choose the best option for the question :
- ‘P % Q’ means that ‘P is the sister of Q’
‘P + Q’ means that ‘P is the son of Q’
‘P × Q’ means that ‘P is the husband of Q’
‘P – Q’ means that ‘P is the brother of Q’
- Which of the following means ‘A is the son-in-law of G’ ?
- (1) $A \times U + S \times G$ (2) $A + S \% U \times G$
(3) $A - S + U \times G$ (4) $A \times U \% S + G$



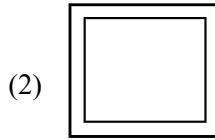


41. କେଉଁ ରାଜ୍ୟରେ "ଆମଚାଙ୍ଗ ବନ୍ୟପ୍ରାଣୀ ଅଭୟାରଣ୍ୟ" ଅବସ୍ଥିତ ?
 (1) ଆସାମ (2) ରାଜସ୍ଥାନ (3) ଓଡ଼ିଶା (4) ମଣିପୁର
42. ଭାରତର ପ୍ରଥମ 3D-ପ୍ରିଣ୍ଟେଡ଼ ଡାକଘର ଏଠାରେ ଉଦଘାଟିତ ହୋଇଛି :
 (1) ଗୌହାଟୀ (2) କୋଲକାତା (3) ମୁମ୍ବାଇ (4) ବେଙ୍ଗାଲୁରୁ
43. ପରବର୍ତ୍ତୀ ଅକ୍ଷର ମୁଖ୍ୟ ସିରିଜରେ ପ୍ରଶ୍ନ ଚିହ୍ନ (?) ସ୍ଥାନରେ କ'ଣ ଆସିବା ଉଚିତ?
 A1X, B4P, E25J, J100F, ?
 (1) O289D (2) O225E (3) Q289D (4) Q225E
44. ସେହି ଶବ୍ଦ ବାଛନ୍ତୁ ଯାହା ପ୍ରଶ୍ନ ଚିହ୍ନକୁ ବଦଳାଇବ।
 NEGI : MVTR :: SING : ?
 (1) TRNS (2) TRNT (3) FRMT (4) HRMT
45. ଏକ ନିର୍ଦ୍ଦିଷ୍ଟ କୋଡ୍ ଭାଷାରେ 'ki ru pi' ର ଅର୍ଥ ହେଉଛି 'nobody like cruel', 'ki mi cha' ର ଅର୍ଥ ହେଉଛି 'king was cruel' ଏବଂ 'ru pi cha' ର ଅର୍ଥ ହେଉଛି 'nobody like king'. ପ୍ରଦତ୍ତ କୋଡ୍ ଭାଷାରେ 'was' ପାଇଁ କୋଡ୍ କ'ଣ ?
 (1) ki (2) mi (3) cha (4) ru
46. ପ୍ରଶ୍ନ ପାଇଁ ସର୍ବୋତ୍ତମ ବିକଳ୍ପ ବାଛିବା ପାଇଁ ନିମ୍ନୋକ୍ତ ସୂଚନାକୁ ଯତ୍ନ ସହ ପଢ଼ନ୍ତୁ ।
 'P % Q' ର ଅର୍ଥ ହେଉଛି 'P ହେଉଛି Q' ର ଭଉଣୀ'
 'P + Q' ର ଅର୍ଥ ହେଉଛି 'P ହେଉଛି Q ର ପୁତ୍ର'
 'P × Q' ର ଅର୍ଥ ହେଉଛି 'P ହେଉଛି Q ର ସ୍ତ୍ରୀ'
 'P – Q' ର ଅର୍ଥ ହେଉଛି 'P ହେଉଛି Q ର ଭାଇ'
 ନିମ୍ନଲିଖିତ ମଧ୍ୟରୁ କେଉଁଟିର ଅର୍ଥ ହେଉଛି 'A ହେଉଛି G ର ଭାଇ ?
 (1) $A \times U + S \times G$ (2) $A + S \% U \times G$
 (3) $A - S + U \times G$ (4) $A \times U \% S + G$

47. If 26th January, 2020 was a Sunday, then what day of the week was it on 16th March of that year ?
- (1) Sunday (2) Monday
(3) Tuesday (4) Wednesday
48. What will be the measurement of the angle made by the hour and minute hands of a clock when the time is 'quarter past 3' ?
- (1) $6\frac{1}{2}^\circ$ (2) 10°
(3) $7\frac{1}{2}^\circ$ (4) $8\frac{1}{2}^\circ$
49. If in a certain code language, 'MERCURY' is coded as 'NGUGZXF', then how will 'ENTANGLE' be coded in the same code language ?
- (1) FPXFSMSM (2) FPWESMSM
(3) FPWESNSN (4) FPWFTNSM
50. The problem given below consists of a question and two statements numbered I and II. You have to decide whether the data provided in the statements are sufficient to answer the question.
- How many sisters does Sunny have ?
- I. Sunny is the only son of his parents.
II. Sunny's parents have three children.
- (1) Only statement I alone is sufficient to answer the question.
(2) Only statement II alone is sufficient to answer the question.
(3) Statements I and II together are sufficient to answer the question.
(4) Either statement I or II alone is sufficient to answer the question.
51. A boy leaves his house. He travels 6 km towards South, then travels 8 km towards West and further travels 9 km towards South. How far and in which direction is he from his house now ?
- (1) 13 km, South West
(2) 17 km, South West
(3) 17 km, North West
(4) 13 km, West

47. ଯଦି 26 ଜାନୁଆରୀ, 2020 ରବିବାର ଥିଲା, ତେବେ ସେହି ବର୍ଷର 16 ମାର୍ଚ୍ଚ ସପ୍ତାହର କେଉଁ ଦିନ ଥିଲା ?
 (1) ରବିବାର (2) ସୋମବାର (3) ମଙ୍ଗଳବାର (4) ବୁଧବାର
48. ଏକ ଘଡ଼ିର ହାତ ଦ୍ଵାରା ତିଆରି କୋଣର ମାପ କେତେ ହେବ ଯେତେବେଳେ ସମୟ 3:15 ହେବ ?
 (1) $6\frac{1}{2}^\circ$ (2) 10° (3) $7\frac{1}{2}^\circ$ (4) $8\frac{1}{2}^\circ$
49. ଯଦି ଏକ ନିର୍ଦ୍ଦିଷ୍ଟ କୋଡ୍ ଭାଷାରେ, 'MERCURY' କୁ 'NGUGZXF' ଭାବରେ କୋଡ୍ କରାଯାଏ, ତେବେ 'ENTANGLE' କୁ ସମାନ କୋଡ୍ ଭାଷାରେ କିପରି କୋଡ୍ କରାଯିବ ?
 (1) FPXFSMSM (2) FPWESMSM (3) FPWESNSN (4) FPWFTNSM
50. ନିମ୍ନରେ ଦିଆଯାଇଥିବା ସମସ୍ୟାରେ ଗୋଟିଏ ପ୍ରଶ୍ନ ଏବଂ I ଏବଂ II ସଂଖ୍ୟା ବିଶିଷ୍ଟ ଦୁଇଟି ବିବୃତ୍ତି ରହିଛି । ପ୍ରଶ୍ନଗୁଡ଼ିକର ଉତ୍ତର ଦେବା ପାଇଁ ବିବୃତ୍ତିରେ ଦିଆଯାଇଥିବା ତଥ୍ୟ ଯଥେଷ୍ଟ କି ନାହିଁ ତାହା ଆପଣଙ୍କୁ ସ୍ଥିର କରିବାକୁ ହେବ ।
 ସନ୍ଦିଗ୍ଧ କେତେ ଭିତ୍ତି ଅଛି ?
 I. ସନ୍ଦିଗ୍ଧ ପିତାମାତାଙ୍କ ଏକମାତ୍ର ପୁଅ ।
 II. ସନ୍ଦିଗ୍ଧ ପିତାମାତାଙ୍କର ତିନୋଟି ସନ୍ତାନ ଅଛି ।
 (1) ଯଦି କେବଳ I ବିବୃତ୍ତି ହିଁ ଏହି ପ୍ରଶ୍ନର ଉତ୍ତର ଦେବା ପାଇଁ ଯଥେଷ୍ଟ ।
 (2) ଯଦି କେବଳ II ବିବୃତ୍ତି ହିଁ ପ୍ରଶ୍ନର ଉତ୍ତର ଦେବା ପାଇଁ ଯଥେଷ୍ଟ ।
 (3) ଯଦି ବିବୃତ୍ତି I ଏବଂ II ମିଳିତ ଭାବେ ପ୍ରଶ୍ନର ଉତ୍ତର ଦେବା ପାଇଁ ଯଥେଷ୍ଟ ହୋଇଥାଏ ।
 (4) ଯଦି କେବଳ ଏକ ବାକ୍ୟ I କିମ୍ବା II, ପ୍ରଶ୍ନର ଉତ୍ତର ଦେବା ପାଇଁ ଯଥେଷ୍ଟ ହୋଇଥାଏ ।
51. ପୁଅ ଘର ଛାଡ଼ି ଚାଲିଯାଉଛି। ସେ ଦକ୍ଷିଣ ଦିଗକୁ 6 କି.ମି. ଯାତ୍ରା କରନ୍ତି, ତା ପରେ ପଶ୍ଚିମ ଦିଗକୁ 8 କି.ମି. ଯାତ୍ରା କରନ୍ତି ଏବଂ ଦକ୍ଷିଣ ଦିଗକୁ 9 କି.ମି. ଯାତ୍ରା କରନ୍ତି, ତାଙ୍କ ଘରୁ ବର୍ତ୍ତମାନ କେତେ ଦୂର ଏବଂ କେଉଁ ଦିଗରେ ଅଛି ?
 (1) 13 କି.ମି., ଦକ୍ଷିଣ-ପଶ୍ଚିମ (2) 17 କି.ମି., ଦକ୍ଷିଣ-ପଶ୍ଚିମ
 (3) 17 କି.ମି., ଉତ୍ତର-ପଶ୍ଚିମ (4) 13 କି.ମି., ପଶ୍ଚିମ

52. Find out which of the answer figures completes the figure matrix :

Problem figure :



53. A clock seen through a mirror shows 'quarter to seven'. What is the correct time shown by the clock ?

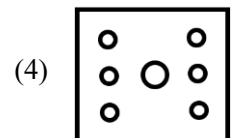
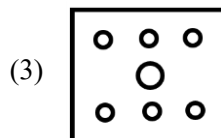
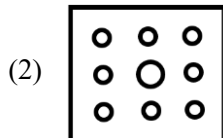
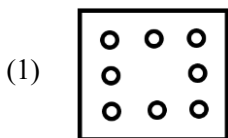
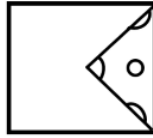
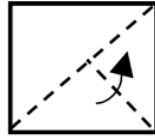
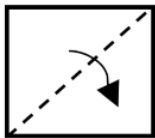
(1) 6:15

(2) 6:17

(3) 5:17






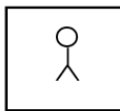


(4) 5:15



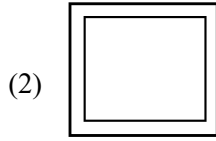

54. The sequence of folding a piece of paper and the manner in which the folded paper has been cut is shown in the following figures. How would this paper look when unfolded ?



SPACE FOR ROUGH WORK

52. କେଉଁ ଉତ୍ତର ସଂଖ୍ୟା ଚିତ୍ର ମାଟ୍ରିକ୍ସକୁ ସମ୍ପୂର୍ଣ୍ଣ କରେ ତାହା ଖୋଜନ୍ତୁ :
ସମସ୍ୟା ଚିତ୍ର :

		
		
		?



53. ଦର୍ପଣରେ ଦେଖାଯାଉଥିବା ଗୋଟିଏ ଘଡ଼ିରେ ସାତଟା ବାଜିବାକୁ 15 ମିନିଟ ଦୃଶ୍ୟମାନ ହୋଇଥାଏ । ଘଣ୍ଟା ଦ୍ୱାରା ଦର୍ଶାଯାଇଥିବା ସଠିକ୍ ସମୟ କ'ଣ ?

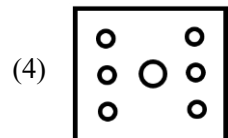
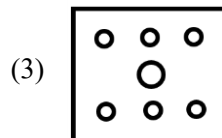
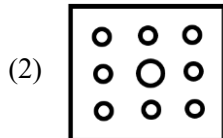
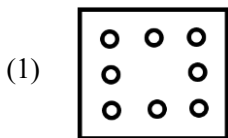
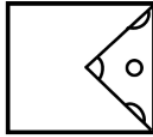
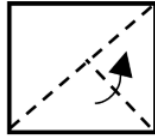
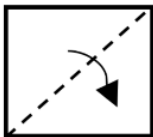
(1) 6:15

(2) 6:17

(3) 5:17

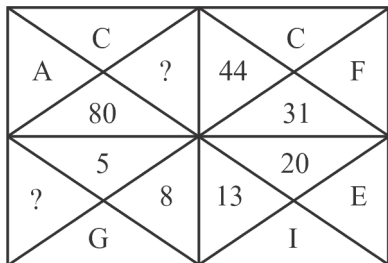
(4) 5:15

54. ଗୋଟିଏ କାଗଜ ଖଣ୍ଡକୁ ଭାଙ୍ଗିବାର କ୍ରମ ଏବଂ ଯେଉଁ ଉପାୟରେ କାଗଜଗୁଡ଼ିକୁ ଭାଙ୍ଗି ଦିଆଯାଇଛି, ତାହା ନିମ୍ନୋକ୍ତ ଚିତ୍ରଗୁଡ଼ିକରେ ଦର୍ଶାଯାଇଛି। ଖୋଲା ପଡ଼ିଲେ ଏହି କାଗଜଟି କିପରି ଦେଖାଯିବ ?



SPACE FOR ROUGH WORK

55. Find out the missing (?) number and letter.



- (1) 59 and K
- (2) 61 and L
- (3) 61 and K
- (4) 59 and L

56. What will be the next number of the series

3, 6, 10.5, 17, 26, ?

- (1) 31
- (2) 38
- (3) 40
- (4) 41

57. In a class of 40 students, Anjali's rank is thrice that of Anita. There are 4 students who have ranks worse than that of Anjali. Anita's rank in the class is :

- (1) 9th
- (2) 10th
- (3) 18th
- (4) 12th

58. Six people E, H, K, M, S and U are seated in a circle facing the centre. U and H are immediate neighbours of M. E is the only person sitting between K and S. H is to the immediate right of S. Who is to the immediate right of U ?

- (1) M
- (2) E
- (3) K
- (4) S

SPACE FOR ROUGH WORK

55. ହଜିଯାଇଥିବା (?) ସଂଖ୍ୟା ଏବଂ ଅକ୍ଷରଗୁଡ଼ିକୁ ଖୋଜି ବାହାର କରନ୍ତୁ ।

A	C	?	44	C	F
	80			31	
	5	8	13	20	E
?	G			I	

- (1) 59 ଏବଂ K
 (2) 61 ଏବଂ L
 (3) 61 ଏବଂ K
 (4) 59 ଏବଂ L

56. ପରବର୍ତ୍ତୀ ଶୃଙ୍ଖଳାର ସଂଖ୍ୟା କେତେ ହେବ ?

3, 6, 10.5, 17, 26, ?

- (1) 31
 (2) 38
 (3) 40
 (4) 41

57. 40 ଜଣ ଛାତ୍ରଛାତ୍ରୀ ଥିବା ଗୋଟିଏ ଶ୍ରେଣୀରେ ଅଞ୍ଜଳିକ ରୟାଙ୍କ ଅନିତାଙ୍କ ରୟାଙ୍କ ଠାରୁ ତିନିଗୁଣ ଅଧିକ । 4 ଜଣ ଛାତ୍ର ଅଛନ୍ତି ଯେଉଁମାନଙ୍କର ରୟାଙ୍କ ଅଞ୍ଜଳିକ ଠାରୁ ଖରାପ ରହିଛି । ଶ୍ରେଣୀରେ ଅନିତାଙ୍କ ରୟାଙ୍କ ହେଉଛି

- (1) 9th
 (2) 10th
 (3) 18th
 (4) 12th




58. ଛଅ ଜଣ ବ୍ୟକ୍ତି E, H, K, M, S ଏବଂ U କେନ୍ଦ୍ର ଆଡକୁ ମୁହଁ କରି ଏକ ବୃତ୍ତରେ ବସିଛନ୍ତି । U ଏବଂ H ହେଉଛନ୍ତି M ର ନିକଟତମ ପଡ଼ୋଶୀ । E ହେଉଛନ୍ତି ଏକମାତ୍ର ବ୍ୟକ୍ତି ଯିଏ K ଏବଂ S ମଧ୍ୟରେ ବସିଛନ୍ତି । H ହେଉଛି S ର ଦୁଇତ୍ର ତାହାଣ ପାର୍ଶ୍ୱରେ U ର ଦୁଇତ୍ର ତାହାଣ ପାର୍ଶ୍ୱରେ କିଏ ଅଛନ୍ତି

- (1) M
 (2) E
 (3) K
 (4) S

SPACE FOR ROUGH WORK

59. Find out which of the answer figures from the options can be formed using all the pieces given in the problem figure.

Problem figure



60. Read the given statements and conclusions carefully assuming that the information given in the statements is true, even if it appears to be at variance with commonly known facts. Decide which of the given conclusion(s) logically follows from the statements.

Statements :

No keyboard is a mouse.

All mice are computers.

All computers are laptops.

Conclusions :

I. All mice are laptops.



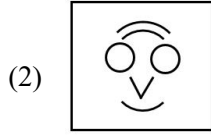

II. All computers can never be keyboards.

- (1) Only conclusion I follows
 (2) Only conclusion II follows
 (3) Neither conclusion I nor II follows
 (4) Both conclusions I and II follow

SPACE FOR ROUGH WORK

59. ସମସ୍ୟା ଚିତ୍ରରେ ଦିଆଯାଇଥିବା ଅଂଶଗୁଡ଼ିକରୁ ବିକଳଗୁଡ଼ିକ ମଧ୍ୟରୁ କେଉଁ ଉତ୍ତର ସଂଖ୍ୟା ଗଠନ କରାଯାଇପାରିବ ତାହା ଖୋଜି ବାହାର କରନ୍ତୁ ।

ସମସ୍ୟା ସଂଖ୍ୟା



60. ପ୍ରଦତ୍ତ ବିବୃତ୍ତି ଏବଂ ଉପସଂହାରକୁ ଯତ୍ନ ସହିତ ପଢ଼ନ୍ତୁ, ଯଦି ଅନୁମାନ କରନ୍ତୁ ଯେ ବିବୃତ୍ତିରେ ଦିଆଯାଇଥିବା ସୂଚନା ସତ୍ୟ, ଯଦିଓ ଏହା ସାଧାରଣ ଭାବରେ ଜଣାଶୁଣା ତଥ୍ୟ ସହିତ ଭିନ୍ନ ବୋଲି ଜଣାପଡ଼େ, ତେବେ ସ୍ଥିର କରନ୍ତୁ ଯେ ଦିଆଯାଇଥିବା ସିଦ୍ଧାନ୍ତ ମଧ୍ୟରୁ କେଉଁଟି ବିବୃତ୍ତିରୁ ଯୁକ୍ତିଯୁକ୍ତ ଭାବରେ ଅନୁସରଣ କରେ ?

ବିବୃତ୍ତି :

କୌଣସି କିବୋର୍ଡ୍ ଏକ ମାଉସ୍ ନୁହେଁ ।

ସମସ୍ତ ମାଉସ୍ କମ୍ପ୍ୟୁଟର ଅଟେ ।

ସମସ୍ତ କମ୍ପ୍ୟୁଟର ହେଉଛି ଲାପ୍ଟପ୍ ।

ଉପସଂହାର :

I. ସମସ୍ତ ମାଉସ୍ ଲାପ୍ଟପ୍ ।

II. ସମସ୍ତ କମ୍ପ୍ୟୁଟର କେବେ ବି କିବୋର୍ଡ୍ ହୋଇପାରିବ ନାହିଁ ।

(1) ଯଦି I ସିଦ୍ଧାନ୍ତକୁ ଅନୁସରଣ କରେ

(2) ଯଦି କେବଳ II ସିଦ୍ଧାନ୍ତ ଅନୁସରଣ କରେ

(3) ଯଦି କୌଣସି ସିଦ୍ଧାନ୍ତ I ଏବଂ II ଅନୁସରଣ କରନ୍ତି ନାହିଁ

(4) ଯଦି ଉଭୟ ସିଦ୍ଧାନ୍ତ I ଏବଂ II ଅନୁସରଣ କରେ

SPACE FOR ROUGH WORK

SPACE FOR ROUGH WORK

Read carefully the following instructions :

8. No candidate will be allowed to leave the OMR Answer Sheet blank. If any OMR Answer Sheet is found blank, it shall be crossed by the Invigilator with his/her signature, mentioning "Cancelled" on it.
9. Do not tear or fold any page of the Test Booklet and OMR Answer Sheet.
10. Candidates are advised to ensure that they fill the correct particulars on the OMR Answer Sheet, i.e., Application No., Roll No., Test Booklet No., Name, Mother's Name, Father's Name and Signature.
11. In case of any discrepancy in any question between English and Hindi/Regional language version, the English version will be considered as the final version for evaluation.
12. Rough work is to be done in the space provided for this purpose in the Test Booklet only.
13. The answers will be evaluated through electronic scanning process. Incomplete or incorrect entries may render the OMR Answer Sheet invalid.
14. Candidates are advised not to fold or make any stray marks on the OMR Answer Sheet. Use of Eraser, Nail, Blade, White Fluid/Whitener, etc., to smudge, scratch or damage in any manner the OMR Answer Sheet during examination is strictly prohibited. Candidature and OMR Answer Sheet of candidates using Eraser, Nail, Blade or White Fluid/Whitener to smudge, scratch or damage in any manner shall be cancelled.
15. There will be one copy of OMR Answer Sheet i.e., the Original Copy. After the examination is over, the candidate shall hand over the OMR Answer Sheet to the Invigilator. The candidate can take away the Test Booklet after the examination is over. If the candidate does not hand over the OMR Answer Sheet to the Invigilator and goes away with the OMR Answer Sheet, his/her candidature shall be cancelled and criminal proceedings shall also be initiated against him/her.
16. Candidates are advised strictly not to carry handkerchief, any mobile phone, any type of watch, belt or wear ornaments like ring, chain, ear-ring, etc., electronic or communication device, pen, pencil, eraser, sharpener and correction fluid to the Examination Centre. If any candidate is found possessing any such item, he/she will not be allowed to enter the examination centre. Possession of a mobile phone or any other aiding material as mentioned above by the candidate in the examination room will be treated as a serious violation and it may lead to cancellation of the candidature and debarring him/her from future examinations.
17. If a candidate violates any instructions or shows any indiscipline or misbehaviour, appropriate action will be taken including cancellation of candidature and debarring from future examinations.
18. Use of electronic/manual calculator is **not** allowed.

ନିମ୍ନଲିଖିତ ନିର୍ଦ୍ଦେଶଗୁଡ଼ିକୁ ସାବଧାନର ସହିତ ପଢ଼ନ୍ତୁ :

8. କୌଣସି ପରୀକ୍ଷାର୍ଥୀଙ୍କୁ OMR ଉତ୍ତର ପତ୍ରଟି ଖାଲି ଛାଡ଼ିବାକୁ ଅନୁମତି ଦିଆଯିବ ନାହିଁ। ଯଦି କୌଣସି OMR ଉତ୍ତର ପତ୍ର ଖାଲି ପାଇଯାଏ, ତାହେଲେ ପରୀକ୍ଷା ପରିଚାଳକଙ୍କ ଦସ୍ତଖତ ସହ ଅନୁପାତିତ କରାଯିବ ଏବଂ "ରଦ୍ଦ କରାଯାଇଛି" ବୋଲି ଲେଖାଯିବ।
9. ଟେଷ୍ଟ ବୁକ୍ଲେଟର ଏବଂ OMR ଉତ୍ତର ପତ୍ର କୌଣସି ପୃଷ୍ଠାକୁ ଛିଣ୍ଡେଇବା କିମ୍ବା ମୋଡ଼ିବାର ଅନୁମତି ନାହିଁ।
10. ପରୀକ୍ଷାର୍ଥୀମାନେ ଏହା ନିଶ୍ଚିତ କରନ୍ତୁ ଯେ ସେମାନେ OMR ଉତ୍ତର ପତ୍ରରେ ସଠିକ ବିବରଣୀ ପୂରଣ କରିଛନ୍ତି, ଯଥା ଆବେଦନ ନମ୍ବର, ରୋଲ୍ ନମ୍ବର, ଟେଷ୍ଟ ବୁକ୍ଲେଟ୍ ନମ୍ବର, ନାମ, ମା'ଙ୍କ ନାମ, ପିତାଙ୍କ ନାମ ଏବଂ ଦସ୍ତଖତ କରିଛନ୍ତି।
11. ଯଦି ଇଂରାଜୀ ଏବଂ ହିନ୍ଦୀ/ଆଞ୍ଚଳିକ ଭାଷାର ସଂସ୍କରଣ ମଧ୍ୟରେ କୌଣସି ପ୍ରଶ୍ନରେ ବୈଷମ୍ୟ ଥାଏ, ଇଂରାଜୀ ସଂସ୍କରଣକୁ ମୂଲ୍ୟାୟନ ପାଇଁ ଚୂଡ଼ାନ୍ତ ସଂସ୍କରଣ ଭାବିବାକୁ ପଡ଼ିବ।
12. ଖସଡ଼ା କାମ କେବଳ ଟେଷ୍ଟ ବୁକ୍ଲେଟରେ ଏ ହା ପାଇଁ ପ୍ରଦାନ କରାଯାଇଥିବା ସ୍ଥାନରେ କରିବାକୁ ହେବ ।
13. ଉତ୍ତରଗୁଡ଼ିକୁ ଇଲେକ୍ଟ୍ରନିକ ସ୍କାନିଂ ପ୍ରକ୍ରିୟା ମାଧ୍ୟମରେ ମୂଲ୍ୟାୟନ ହେବ। ଅସମ୍ପୂର୍ଣ୍ଣ କିମ୍ବା ଭୁଲ ପ୍ରବେଶ OMR ଉତ୍ତର ପତ୍ରକୁ ଅବୈଧ ବା ଅମାନ୍ୟା କରିହେବ ।
14. ପରୀକ୍ଷାର୍ଥୀମାନେ OMR ଉତ୍ତର ପତ୍ରରେ କୌଣସି ମୋଡ଼ାବା କିମ୍ବା ଅନ୍ୟ ଚିହ୍ନ ଲଗାଇବାକୁ ଅନୁମତି ନାହିଁ। ଇରେଜର, ନଖ, କ୍ଲେଡ, ଶୁଭ୍ର ତରଳ/ଖାଇତନର ଆଦିର ବ୍ୟବହାର କରି OMR ଉତ୍ତର ପତ୍ରକୁ ଯେକୌଣସି ଭାବରେ କ୍ଷତିଗ୍ରସ୍ତ କରିବା ନିଷିଦ୍ଧ ରହିଛି। ଏହାକୁ ଭଲଫନ କରିଥିବା ପରୀକ୍ଷାର୍ଥୀଙ୍କ ଅଭ୍ୟର୍ଥନା ଏବଂ OMR ଉତ୍ତର ପତ୍ର ରଦ୍ଦ କରାଯିବ।
15. OMR ଉତ୍ତର ପତ୍ରର ଏକ ପ୍ରତିଲିପି ରହିବ, ଅର୍ଥାତ୍ ମୂଳ ପ୍ରତିଲିପି। ପରୀକ୍ଷା ସମାପ୍ତ ହେବା ପରେ, ପରୀକ୍ଷାର୍ଥୀ OMR ଉତ୍ତର ପତ୍ରଟି ପରୀକ୍ଷା ପରିଚାଳକଙ୍କୁ ଦେବେ। ପରୀକ୍ଷା ସମାପ୍ତ ହେବା ପରେ, ପରୀକ୍ଷାର୍ଥୀ ଟେଷ୍ଟ ବୁକ୍ଲେଟ୍ ନେଇଯାଇ ପାରିବ। ଯଦି କୌଣସି ପରୀକ୍ଷାର୍ଥୀ OMR ଉତ୍ତର ପତ୍ରଟି ପରୀକ୍ଷା ପରିଚାଳକଙ୍କୁ ନ ଦେଇ ଚାଲିଯିବେ, ତାଙ୍କ ଅଭ୍ୟର୍ଥନା (ପ୍ରାର୍ଥୀପତ୍ର) ରଦ୍ଦ କରାଯିବ ଏବଂ ତାଙ୍କ ଉପରେ ଆପରାଧିକ କାର୍ଯ୍ୟବାହୀ ହେବ।
16. ପରୀକ୍ଷାର୍ଥୀମାନେ ରୁମାଲ, କୌଣସି ମୋବାଇଲ ଫୋନ୍, କୌଣସି ପ୍ରକାରର ଘଣ୍ଟା, ବେଲ୍ଟ, କିମ୍ବା ଅଳଙ୍କାର ଯଥା ମୁଦି, ଚେନ, କାନଫୁଲ ଅଳଙ୍କାର ଇତ୍ୟାଦି କିମ୍ବା ଯୋଗାଯୋଗ ଉପକରଣ, କଲମ, ପେନ୍ସିଲ, ଇରେଜର, ମୁନିଆଁ କରିବା ବସ୍ତୁ ଏବଂ ସଂସୋଧନ ତରଳ ପରୀକ୍ଷା କେନ୍ଦ୍ରରେ ନେଇ ଯିବାକୁ କଠୋରଭାବରେ ନିଷିଦ୍ଧ ରହିଛି। ଯଦି କୌଣସି ପରୀକ୍ଷାର୍ଥୀ ଏହି ପ୍ରକାରର କୌଣସି ବସ୍ତୁ ଧାରଣ କରିଥିବେ, ସେମାନେ ପରୀକ୍ଷା କେନ୍ଦ୍ରରେ ପ୍ରବେଶ କରିବାକୁ ଅନୁମତି ପାଇବେ ନାହିଁ। ପରୀକ୍ଷା କକ୍ଷରେ ମୋବାଇଲ ଫୋନ୍ କିମ୍ବା ଉପରୋକ୍ତ ଉଲ୍ଲେଖିତ ସାହାଯ୍ୟ ଉପକରଣ ଧାରଣ କରାଯିବାକୁ ଗମ୍ଭୀର ଭଲଫନ ବୋଲି ବିବେଚିତ ହେବ ଏବଂ ସେମାନଙ୍କୁ ଭବିଷ୍ୟତ ପରୀକ୍ଷାରୁ ବାରଣ କରାଯିବ ଏବଂ ତାଙ୍କ ଅଭ୍ୟର୍ଥନା(ପ୍ରାର୍ଥୀ ପତ୍ର) ରଦ୍ଦ କରାଯିବ।
17. ଯଦି କୌଣସି ପରୀକ୍ଷାର୍ଥୀ କୌଣସି ନିର୍ଦ୍ଦେଶର ଭଲଫନ କରନ୍ତି କିମ୍ବା ଅନୁଶାସନହୀନ ବ୍ୟବହାର ଦେଖାନ୍ତି, ତାହାର ଅଭ୍ୟର୍ଥନା (ପ୍ରାର୍ଥୀ ପତ୍ର) ରଦ୍ଦ କରାଯିବ, ଉଚିତ ଦଣ୍ଡବିଧାନ କରାଯିବ ଏବଂ ଭବିଷ୍ୟତ ପରୀକ୍ଷାରୁ ତାଙ୍କୁ ବାରଣ କରାଯିବ।
18. ଇଲେକ୍ଟ୍ରନିକ/ମାନ୍ୟୁଆଲ କ୍ୟାଲକୁଲେଟରର ବ୍ୟବହାର ନିଷିଦ୍ଧ ରହିଛି।