

# LAACH

This booklet contains 44 pages. (English/Oriya)

ଏହି ପୁସ୍ତିକାରେ 44 ଗୋଟି ପୃଷ୍ଠା ରହିଛି ।

Do not open this Test Booklet until you are asked to do so.

ତୁମକୁ କୁହା ନ ଯିବା ପର୍ଯ୍ୟନ୍ତ ଏହି ପୁସ୍ତିକାକୁ ଖୋଲ ନାହିଁ ।



Test Booklet Code

ପରୀକ୍ଷା ପୁସ୍ତିକା କୋଡ୍

QQ

Read carefully the Instructions on the Back Cover of this Test Booklet.

ଏହି ପରୀକ୍ଷା ପୁସ୍ତିକାର ପଛ ଆବରଣରେ ପ୍ରଦତ୍ତ ନିର୍ଦ୍ଦେଶାବଳୀକୁ ଯତ୍ନ ସହିତ ପଢ଼ ।

### Important Instructions :

1. The Answer Sheet is inside this Test Booklet. When you are directed to open the Test Booklet, take out the Answer Sheet and fill in the particulars on **Side-1** and **Side-2** carefully with **blue/black** ball point pen only.
2. The test is of **3 hours** duration and Test Booklet contains **180** questions. Each question carries **4** marks. For each correct response, the candidate will get **4** marks. For each incorrect response, **one mark** will be deducted from the total scores. The maximum marks are 720.
3. Use **Blue/Black Ball Point Pen only** for writing particulars on this page/marking responses.
4. Rough work is to be done on the space provided for this purpose in the Test Booklet only.
5. **On completion of the test, the candidate must hand over the Answer Sheet to the Invigilator before leaving the Room/Hall. The candidates are allowed to take away this Test Booklet with them.**
6. The CODE for this Booklet is **QQ**. Make sure that the CODE printed on **Side-2** of the Answer Sheet is the same as that on this Test Booklet. In case of discrepancy, the candidate should immediately report the matter to the Invigilator for replacement of both the Test Booklet and the Answer Sheet.
7. The candidates should ensure that the Answer Sheet is not folded. Do not make any stray marks on the Answer Sheet. Do not write your Roll No. anywhere else except in the specified space in the Test Booklet/Answer Sheet.
8. Use of white fluid for correction is **not** permissible on the Answer Sheet.

### ଗୁରୁତ୍ୱପୂର୍ଣ୍ଣ ନିର୍ଦ୍ଦେଶାବଳୀ :

1. ଉତ୍ତର ପତ୍ର ଏହି ପରୀକ୍ଷା ପୁସ୍ତିକା ମଧ୍ୟରେ ରହିଛି । ପରୀକ୍ଷା ପୁସ୍ତିକା ଖୋଲିବା ପାଇଁ ତୁମକୁ ନିର୍ଦ୍ଦେଶ ଦିଆଯିବା ପରେ ଉତ୍ତର ପତ୍ରକୁ କାଢ଼ିଆଣ ଏବଂ ପାର୍ଶ୍ୱ-1 ଓ ପାର୍ଶ୍ୱ-2 ରେ ବିବରଣୀକୁ ଧ୍ୟାନ ସହିତ କେବଳ ନୀଳ/କଳା ବଲ୍ ପଏଣ୍ଟ କଲମରେ ପୂରଣ କର ।
2. ପରୀକ୍ଷାର ଅବଧି ହେଉଛି **3 ଘଣ୍ଟା** ଏବଂ ପରୀକ୍ଷା ପୁସ୍ତିକାରେ **180** ଗୋଟି ପ୍ରଶ୍ନ ରହିଛି । ପ୍ରତ୍ୟେକ ପ୍ରଶ୍ନର ଅଙ୍କ **4** ଅଟେ । ପ୍ରତ୍ୟେକ ଠିକ୍ ଉତ୍ତର ପାଇଁ, ପ୍ରାର୍ଥୀ **4** ଅଙ୍କ ପାଇବେ । ପ୍ରତ୍ୟେକ ଭୁଲ୍ ଉତ୍ତର ପାଇଁ, ମୋଟ ସ୍କୋରରୁ **ଏକ ଅଙ୍କ** କାଟିଦିଆଯିବ । ସର୍ବାଧିକ ଅଙ୍କ ହେଉଛି 720 ।
3. ଏହି ପୃଷ୍ଠାରେ ବିବରଣୀ ଲେଖିବା/ଉତ୍ତର ପତ୍ରକୁ ଚିହ୍ନିତ କରିବା ପାଇଁ କେବଳ ନୀଳ/କଳା ବଲ୍ ପଏଣ୍ଟ କଲମ ବ୍ୟବହାର କର ।
4. ରଫ୍ କାମ କେବଳ ସେହି ଉଦ୍ଦେଶ୍ୟ ପାଇଁ ପରୀକ୍ଷା ପୁସ୍ତିକାରେ ପ୍ରଦତ୍ତ ସ୍ଥାନରେ ସମ୍ପାଦନ କରାଯିବା ଆବଶ୍ୟକ ।
5. ପରୀକ୍ଷା ସମାପ୍ତ ହେଲା ପରେ, ପ୍ରକୋଷ୍ଠ/ହଲ୍‌ରୁ ବାହାରିବା ପୂର୍ବରୁ ପ୍ରାର୍ଥୀ ଉତ୍ତର ପତ୍ରକୁ ନିରୀକ୍ଷକଙ୍କୁ ହସ୍ତାନ୍ତର କରିବା କରୁଣା । ପ୍ରାର୍ଥୀଙ୍କୁ ସେମାନଙ୍କ ସହିତ ପରୀକ୍ଷା ପୁସ୍ତିକା ନେବା ପାଇଁ ଅନୁମତି ଦିଆଯିବ ।
6. ଏହି ପୁସ୍ତିକାର କୋଡ୍ ହେଉଛି **QQ** । ଏହା ସୁନିଶ୍ଚିତ କରିନିଅ ଯେ ଉତ୍ତର ପତ୍ରର ପାର୍ଶ୍ୱ-2 ରେ ମୁଦ୍ରିତ କୋଡ୍‌ଟି ପରୀକ୍ଷା ପୁସ୍ତିକାରେ ମୁଦ୍ରିତ କୋଡ୍ ସହିତ ସମାନ ଅଟେ । ଅନେକ କ୍ଷେତ୍ରରେ, ପ୍ରାର୍ଥୀ ଏ ସମ୍ପର୍କରେ ତ୍ରୁଟି ନିରୀକ୍ଷକଙ୍କୁ ସୂଚିତ କରି ଉଭୟ ପରୀକ୍ଷା ପୁସ୍ତିକା ଏବଂ ଉତ୍ତର ପତ୍ରକୁ ବଦଳାଇନେବା ଆବଶ୍ୟକ ।
7. ଉତ୍ତର ପତ୍ରକୁ ଯେପରି ଭାଙ୍ଗି ନ କରାହୁଏ ଏହା ପ୍ରାର୍ଥୀମାନେ ସୁନିଶ୍ଚିତ କରିନେବା ଆବଶ୍ୟକ । ଉଦ୍ଦିଷ୍ଟ ସ୍ଥାନକୁ ଛାଡ଼ି ଉତ୍ତର ପତ୍ରର ଅନ୍ୟ କୌଣସି ସ୍ଥାନରେ କୌଣସି ଗାର, ଦାଗ କିମ୍ବା ଚିହ୍ନ କର ନାହିଁ । ପରୀକ୍ଷା ପୁସ୍ତିକା/ଉତ୍ତର ପତ୍ରରେ ନିର୍ଦ୍ଧାରିତ ସ୍ଥାନକୁ ଛାଡ଼ି ଅନ୍ୟ କୌଣସି ସ୍ଥାନର ନିଜର ରୋଲ୍ ନମ୍ବର ଲେଖି ନାହିଁ ।
8. ଉତ୍ତର ପତ୍ରରେ ସଂଶୋଧନ ପାଇଁ ଧଳା ରଙ୍ଗ ବ୍ୟବହାର କରାଯିବା ଅନୁମତିଯୋଗ୍ୟ ନୁହେଁ ।

In case of any ambiguity in translation of any question, English version shall be treated as final.

କୌଣସି ପ୍ରଶ୍ନର ଅନୁବାଦରେ ଅସ୍ପଷ୍ଟତା/ସନ୍ଦେହ କ୍ଷେତ୍ରରେ, ଇଂରାଜୀ ସଂସ୍କରଣ ଦୃଢ଼ାନ୍ତ ବିବେଚିତ ହେବ ।

Name of the Candidate (in Capitals) : \_\_\_\_\_

Roll Number : in figures \_\_\_\_\_

: in words \_\_\_\_\_

Centre of Examination (in Capitals) : \_\_\_\_\_

Candidate's Signature : \_\_\_\_\_ Invigilator's Signature : \_\_\_\_\_

Facsimile signature stamp of

Centre Superintendent : \_\_\_\_\_

1. Which of the following statements is **not** true for halogens ?
    - (1) All form monobasic oxyacids.
    - (2) Chlorine has the highest electron-gain enthalpy.
    - (3) All but fluorine show positive oxidation states.
    - (4) All are oxidizing agents.
  2. The correct order of atomic radii in group 13 elements is
    - (1)  $B < Al < In < Ga < Tl$
    - (2)  $B < Ga < Al < In < Tl$
    - (3)  $B < Ga < Al < Tl < In$
    - (4)  $B < Al < Ga < In < Tl$
  3. In the structure of  $ClF_3$ , the number of lone pairs of electrons on central atom 'Cl' is
    - (1) one
    - (2) three
    - (3) four
    - (4) two
  4. The correct order of N-compounds in its decreasing order of oxidation states is
    - (1)  $HNO_3, NO, N_2, NH_4Cl$
    - (2)  $NH_4Cl, N_2, NO, HNO_3$
    - (3)  $HNO_3, NH_4Cl, NO, N_2$
    - (4)  $HNO_3, NO, NH_4Cl, N_2$
  5. Which one of the following elements is unable to form  $MF_6^{3-}$  ion ?
    - (1) Ga
    - (2) In
    - (3) B
    - (4) Al
  6. Considering Ellingham diagram, which of the following metals can be used to reduce alumina ?
    - (1) Fe
    - (2) Cu
    - (3) Mg
    - (4) Zn
1. ହାଲୋଜେନମାନଙ୍କ ପାଇଁ ନିମ୍ନଲିଖିତ ଉକ୍ତି ମଧ୍ୟରୁ କେଉଁଟି ଠିକ୍ ନୁହେଁ ?
    - (1) ସମସ୍ତେ ମନୋବେସିକ୍ ଅକ୍ସିଅମ୍ ଗଠନ କରନ୍ତି ।
    - (2) କ୍ଲୋରିନର ଇଲେକ୍ଟ୍ରନ୍ ଗେନ୍ ଏନ୍ଥାଲପି ସବୁଠୁ ଅଧିକ ।
    - (3) ଫ୍ଲୋରିନ୍ କୁ ଛାଡ଼ି ସମସ୍ତେ ଧନାତ୍ମକ ଜାରଣ ଅବସ୍ଥା ଦେଖାନ୍ତି ।
    - (4) ସମସ୍ତେ ଜାରଣ ଅଭିକର୍ତ୍ତା ।
  2. ଗ୍ରୁପ୍ 13 ର ମୌଳିକ ମାନଙ୍କର ପରମାଣୁ ବ୍ୟାସାର୍ଦ୍ଧ ଗୁଡ଼ିକର ସଠିକ୍ କ୍ରମଟି ବାଛି
    - (1)  $B < Al < In < Ga < Tl$
    - (2)  $B < Ga < Al < In < Tl$
    - (3)  $B < Ga < Al < Tl < In$
    - (4)  $B < Al < Ga < In < Tl$
  3.  $ClF_3$  ଆକୃତିରେ କେନ୍ଦ୍ରିୟ ପରମାଣୁ 'Cl' ରେ କେତେ ସଂଖ୍ୟାରେ ଏକାକୀ ଇଲେକ୍ଟ୍ରନ୍ ଯୁଗ୍ମ ଅଛି ?
    - (1) ଗୋଟିଏ
    - (2) ତିନି
    - (3) ଚାରି
    - (4) ଦୁଇ
  4. ନିମ୍ନଲିଖିତ ଯୌଗିକ ଗୁଡ଼ିକ ମଧ୍ୟରୁ ଯେଉଁ କ୍ରମଟିରେ ସଠିକ୍ ଭାବେ N-ର ଜାରଣ ଅବସ୍ଥା କ୍ରମସ୍ତାସିତ ଭାବରେ ଅଛି ତାକୁ ଦର୍ଶାଅ
    - (1)  $HNO_3, NO, N_2, NH_4Cl$
    - (2)  $NH_4Cl, N_2, NO, HNO_3$
    - (3)  $HNO_3, NH_4Cl, NO, N_2$
    - (4)  $HNO_3, NO, NH_4Cl, N_2$
  5. ନିମ୍ନଲିଖିତ ମୌଳିକ ମାନଙ୍କ ମଧ୍ୟରୁ କିଏ  $MF_6^{3-}$  ଆୟନ ଗଠନ କରିବା ପାଇଁ ଅସମର୍ଥ ?
    - (1) Ga
    - (2) In
    - (3) B
    - (4) Al
  6. ନିମ୍ନଲିଖିତ ଧାତୁଗୁଡ଼ିକ ମଧ୍ୟରୁ କାହାକୁ ଆଲୁମିନାକୁ ଜାରଣ କରିବା ପାଇଁ ବ୍ୟବହାର କରିହେବ, ଏଲିଙ୍ଗହାମ୍ ଚିତ୍ରକୁ ବିଚାରକୁ ନେଇ ଦର୍ଶାଅ ।
    - (1) Fe
    - (2) Cu
    - (3) Mg
    - (4) Zn

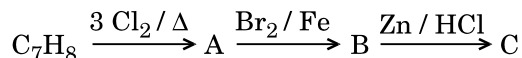
7. The compound A on treatment with Na gives B, and with  $\text{PCl}_5$  gives C. B and C react together to give diethyl ether. A, B and C are in the order

- (1)  $\text{C}_2\text{H}_5\text{OH}$ ,  $\text{C}_2\text{H}_6$ ,  $\text{C}_2\text{H}_5\text{Cl}$
- (2)  $\text{C}_2\text{H}_5\text{OH}$ ,  $\text{C}_2\text{H}_5\text{ONa}$ ,  $\text{C}_2\text{H}_5\text{Cl}$
- (3)  $\text{C}_2\text{H}_5\text{Cl}$ ,  $\text{C}_2\text{H}_6$ ,  $\text{C}_2\text{H}_5\text{OH}$
- (4)  $\text{C}_2\text{H}_5\text{OH}$ ,  $\text{C}_2\text{H}_5\text{Cl}$ ,  $\text{C}_2\text{H}_5\text{ONa}$

8. Hydrocarbon (A) reacts with bromine by substitution to form an alkyl bromide which by Wurtz reaction is converted to gaseous hydrocarbon containing less than four carbon atoms. (A) is

- (1)  $\text{CH} \equiv \text{CH}$
- (2)  $\text{CH}_4$
- (3)  $\text{CH}_3 - \text{CH}_3$
- (4)  $\text{CH}_2 = \text{CH}_2$

9. The compound  $\text{C}_7\text{H}_8$  undergoes the following reactions :



The product 'C' is

- (1) *m*-bromotoluene
- (2) *p*-bromotoluene
- (3) 3-bromo-2,4,6-trichlorotoluene
- (4) *o*-bromotoluene

10. Which oxide of nitrogen is **not** a common pollutant introduced into the atmosphere both due to natural and human activity ?

- (1)  $\text{N}_2\text{O}_5$
- (2)  $\text{NO}$
- (3)  $\text{N}_2\text{O}$
- (4)  $\text{NO}_2$

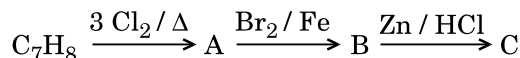
7. ଯୌଗିକ A କୁ Na ସହିତ ସଂଯୋଗ କଲେ B ଦିଏ । ଏବଂ  $\text{PCl}_5$  ସହିତ C ଦିଏ । B ଏବଂ C ପରସ୍ପର ମିଶି ଡାଇ-ଇଥାଇଲ ଇଥର ଦିଅନ୍ତି । A, B ଏବଂ C ର କ୍ରମଟି

- (1)  $\text{C}_2\text{H}_5\text{OH}$ ,  $\text{C}_2\text{H}_6$ ,  $\text{C}_2\text{H}_5\text{Cl}$
- (2)  $\text{C}_2\text{H}_5\text{OH}$ ,  $\text{C}_2\text{H}_5\text{ONa}$ ,  $\text{C}_2\text{H}_5\text{Cl}$
- (3)  $\text{C}_2\text{H}_5\text{Cl}$ ,  $\text{C}_2\text{H}_6$ ,  $\text{C}_2\text{H}_5\text{OH}$
- (4)  $\text{C}_2\text{H}_5\text{OH}$ ,  $\text{C}_2\text{H}_5\text{Cl}$ ,  $\text{C}_2\text{H}_5\text{ONa}$

8. ହାଇଡ୍ରୋକାର୍ବନ୍ (A) ବ୍ରୋମିନ୍ ସହିତ ପ୍ରତିସ୍ଥାପନ ପ୍ରତିକ୍ରିୟା କରି ଏକ ଆଲକିଲ୍ ବ୍ରୋମାଇଡ୍ ଗଠନ କରେ । ଯାହାକି ଉର୍ଦ୍ଧ୍ୱ ପ୍ରତିକ୍ରିୟା ଦ୍ୱାରା କାରୋଟି କମ୍ ଅଙ୍ଗାର ପରମାଣୁଥିବା ବାଷ୍ପୀୟ ହାଇଡ୍ରୋକାର୍ବନ୍ ରେ ପରିବର୍ତ୍ତିତ ହୁଏ । ତାହାଲେ (A) ହେଉଛି

- (1)  $\text{CH} \equiv \text{CH}$
- (2)  $\text{CH}_4$
- (3)  $\text{CH}_3 - \text{CH}_3$
- (4)  $\text{CH}_2 = \text{CH}_2$

9. ଯୌଗିକ  $\text{C}_7\text{H}_8$  ନିମ୍ନଲିଖିତ ପ୍ରତିକ୍ରିୟା ଦେଇ ଗତି କରେ :



ଉତ୍ପାଦ 'C' ହେଉଛି

- (1) *m*-ବ୍ରୋମୋ ଟଲ୍ୟୁଇନ୍
- (2) *p*-ବ୍ରୋମୋ ଟଲ୍ୟୁଇନ୍
- (3) 3-ବ୍ରୋମୋ-2,4,6-ଟ୍ରାଇକ୍ଲୋରୋ ଟଲ୍ୟୁଇନ୍
- (4) *o*-ବ୍ରୋମୋ ଟଲ୍ୟୁଇନ୍

10. ପ୍ରାକୃତିକ ଏବଂ ମାନବୀୟ କାର୍ଯ୍ୟ ଯୋଗୁ ବାୟୁମଣ୍ଡଳକୁ ପ୍ରବେଶ କରୁଥିବା ନାଇଟ୍ରୋଜେନ୍ କେଉଁ ଅକ୍ସାଇଡ୍ ଏକ ସାଧାରଣ ପ୍ରଦୂଷଣକାରୀ **ନୁହେଁ** ?

- (1)  $\text{N}_2\text{O}_5$
- (2)  $\text{NO}$
- (3)  $\text{N}_2\text{O}$
- (4)  $\text{NO}_2$

11. Following solutions were prepared by mixing different volumes of NaOH and HCl of different concentrations :

- 60 mL  $\frac{M}{10}$  HCl + 40 mL  $\frac{M}{10}$  NaOH
- 55 mL  $\frac{M}{10}$  HCl + 45 mL  $\frac{M}{10}$  NaOH
- 75 mL  $\frac{M}{5}$  HCl + 25 mL  $\frac{M}{5}$  NaOH
- 100 mL  $\frac{M}{10}$  HCl + 100 mL  $\frac{M}{10}$  NaOH

pH of which one of them will be equal to 1 ?

- b
- c
- d
- a

12. On which of the following properties does the coagulating power of an ion depend ?

- The magnitude of the charge on the ion alone
- The sign of charge on the ion alone
- Both magnitude and sign of the charge on the ion
- Size of the ion alone

13. The solubility of  $BaSO_4$  in water is  $2.42 \times 10^{-3} \text{ gL}^{-1}$  at 298 K. The value of its solubility product ( $K_{sp}$ ) will be

(Given molar mass of  $BaSO_4 = 233 \text{ g mol}^{-1}$ )

- $1.08 \times 10^{-10} \text{ mol}^2 \text{ L}^{-2}$
- $1.08 \times 10^{-8} \text{ mol}^2 \text{ L}^{-2}$
- $1.08 \times 10^{-14} \text{ mol}^2 \text{ L}^{-2}$
- $1.08 \times 10^{-12} \text{ mol}^2 \text{ L}^{-2}$

14. Given van der Waals constant for  $NH_3$ ,  $H_2$ ,  $O_2$  and  $CO_2$  are respectively 4.17, 0.244, 1.36 and 3.59, which one of the following gases is most easily liquefied ?

- $NH_3$
- $CO_2$
- $O_2$
- $H_2$

11. ନିମ୍ନଲିଖିତ ଦ୍ରବଣଗୁଡ଼ିକ ଭିନ୍ନଭିନ୍ନ ଆୟତନ ଓ ସାନ୍ଦ୍ରତାର NaOH ଏବଂ HCl ନେଇ ପ୍ରସ୍ତୁତ ହୋଇଛି :

- 60 mL  $\frac{M}{10}$  HCl + 40 mL  $\frac{M}{10}$  NaOH
- 55 mL  $\frac{M}{10}$  HCl + 45 mL  $\frac{M}{10}$  NaOH
- 75 mL  $\frac{M}{5}$  HCl + 25 mL  $\frac{M}{5}$  NaOH
- 100 mL  $\frac{M}{10}$  HCl + 100 mL  $\frac{M}{10}$  NaOH

ଏମାନଙ୍କ ମଧ୍ୟରୁ କାହାର pH ମୂଲ୍ୟ 1 ସହିତ ସମାନ ?

- b
- c
- d
- a

12. ଆୟନ୍ର ଦାନାଧାରଣ ଶକ୍ତି ନିମ୍ନପ୍ରଦତ୍ତ କେଉଁ ଗୁଣ ଗୁଡ଼ିକ ଉପରେ ନିର୍ଭର କରେ ?

- କେବଳ ଆୟନ୍ର ଚାର୍ଜର ପରିମାଣ ଉପରେ
- କେବଳ ଆୟନ୍ର ଚାର୍ଜର ଚିହ୍ନ ଉପରେ
- ଉଭୟ ଚାର୍ଜର ପରିମାଣ ଓ ଚିହ୍ନ ଉପରେ
- କେବଳ ଆୟନ୍ର ଆକାର ଉପରେ

13.  $BaSO_4$  ର ଜଳରେ ଦ୍ରବଣୀୟତା 298 K ରେ  $2.42 \times 10^{-3} \text{ gL}^{-1}$  ହେଲେ ଏହାର ଦ୍ରାବ୍ୟତା ଗୁଣଫଳ ( $K_{sp}$ ) ଚି

(ପ୍ରଦତ୍ତ  $BaSO_4$  ର ମୋଲାର ମାସ୍ =  $233 \text{ g mol}^{-1}$ )

- $1.08 \times 10^{-10} \text{ mol}^2 \text{ L}^{-2}$
- $1.08 \times 10^{-8} \text{ mol}^2 \text{ L}^{-2}$
- $1.08 \times 10^{-14} \text{ mol}^2 \text{ L}^{-2}$
- $1.08 \times 10^{-12} \text{ mol}^2 \text{ L}^{-2}$

14.  $NH_3$ ,  $H_2$ ,  $O_2$  ଏବଂ  $CO_2$  ର ଭାଣ୍ଡରଓଲଙ୍କ ସ୍ଥିରାଙ୍କ ଯଥାକ୍ରମେ 4.17, 0.244, 1.36 ଏବଂ 3.59. ଏମାନଙ୍କ ମଧ୍ୟରୁ କେଉଁ ବାଷ୍ପି ଖୁବ୍ ସହଜରେ ତରଳୀକୃତ ହେବ ?

- $NH_3$
- $CO_2$
- $O_2$
- $H_2$

15. Match the metal ions given in Column I with the spin magnetic moments of the ions given in Column II and assign the **correct** code :

Column I		Column II	
a. $\text{Co}^{3+}$	i. $\sqrt{8}$ B.M.		
b. $\text{Cr}^{3+}$	ii. $\sqrt{35}$ B.M.		
c. $\text{Fe}^{3+}$	iii. $\sqrt{3}$ B.M.		
d. $\text{Ni}^{2+}$	iv. $\sqrt{24}$ B.M.		
	v. $\sqrt{15}$ B.M.		

	a	b	c	d
(1)	iv	v	ii	i
(2)	iii	v	i	ii
(3)	iv	i	ii	iii
(4)	i	ii	iii	iv

16. Iron carbonyl,  $\text{Fe}(\text{CO})_5$  is

- (1) tetranuclear
- (2) dinuclear
- (3) trinuclear
- (4) mononuclear

17. The geometry and magnetic behaviour of the complex  $[\text{Ni}(\text{CO})_4]$  are

- (1) square planar geometry and diamagnetic
- (2) tetrahedral geometry and paramagnetic
- (3) square planar geometry and paramagnetic
- (4) tetrahedral geometry and diamagnetic

18. Which one of the following ions exhibits d-d transition and paramagnetism as well ?

- (1)  $\text{CrO}_4^{2-}$
- (2)  $\text{MnO}_4^{2-}$
- (3)  $\text{MnO}_4^-$
- (4)  $\text{Cr}_2\text{O}_7^{2-}$

19. The type of isomerism shown by the complex  $[\text{CoCl}_2(\text{en})_2]$  is

- (1) Geometrical isomerism
- (2) Linkage isomerism
- (3) Ionization isomerism
- (4) Coordination isomerism

15. ଗ୍ରହ I ର ମେଟାଲ ଆୟନ ଗୁଡ଼ିକୁ ଗ୍ରହ II ଆୟନର ଘୂର୍ଣ୍ଣନ ଭୁମକାୟ ଆୟତ୍ତ୍ୱ ସହିତ ମିଳାଇ ସଠିକ୍ ସଂକେତ ଦିଅ :

ଗ୍ରହ I		ଗ୍ରହ II	
a. $\text{Co}^{3+}$	i. $\sqrt{8}$ B.M.		
b. $\text{Cr}^{3+}$	ii. $\sqrt{35}$ B.M.		
c. $\text{Fe}^{3+}$	iii. $\sqrt{3}$ B.M.		
d. $\text{Ni}^{2+}$	iv. $\sqrt{24}$ B.M.		
	v. $\sqrt{15}$ B.M.		

	a	b	c	d
(1)	iv	v	ii	i
(2)	iii	v	i	ii
(3)	iv	i	ii	iii
(4)	i	ii	iii	iv

16. ଆଇରନ୍ କାରବୋନିଲ୍  $\text{Fe}(\text{CO})_5$  ହେଉଛି

- (1) ଛାରି ନାଭିକାୟ
- (2) ଦ୍ୱି ନାଭିକାୟ
- (3) ତ୍ରି ନାଭିକାୟ
- (4) ଏକ ନାଭିକାୟ

17.  $[\text{Ni}(\text{CO})_4]$  ସଂକ୍ଷୁଳର ଜ୍ୟାମିତି ଓ ଭୁମକାୟ ପ୍ରକୃତି ହେଉଛି

- (1) ଷ୍ଟୋୟାର ପ୍ଲାନାର ଜ୍ୟାମିତି ଏବଂ ଡାଇମେଗ୍ନେଟିକ୍
- (2) ଟେଟ୍ରାହେଡ୍ରାଲ୍ ଜ୍ୟାମିତି ଏବଂ ପାରାମେଗ୍ନେଟିକ୍
- (3) ଷ୍ଟୋୟାର ପ୍ଲାନାର ଜ୍ୟାମିତି ଏବଂ ପାରାମେଗ୍ନେଟିକ୍
- (4) ଟେଟ୍ରାହେଡ୍ରାଲ୍ ଜ୍ୟାମିତି ଏବଂ ଡାଇମେଗ୍ନେଟିକ୍

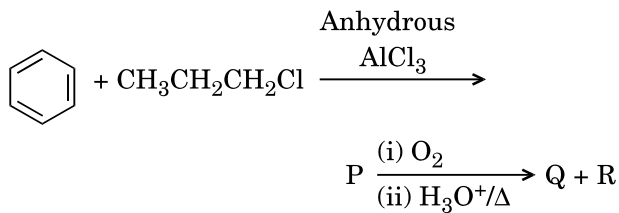
18. ନିମ୍ନଲିଖିତ ଆୟନଗୁଡ଼ିକ ମଧ୍ୟରୁ କିଏ d-d ଅବଶ୍ଳାନ୍ତର ସହିତ ପାରା ମେଗ୍ନେଟିକ୍ ଗୁଣ ପ୍ରଦର୍ଶନ କରେ

- (1)  $\text{CrO}_4^{2-}$
- (2)  $\text{MnO}_4^{2-}$
- (3)  $\text{MnO}_4^-$
- (4)  $\text{Cr}_2\text{O}_7^{2-}$

19.  $[\text{CoCl}_2(\text{en})_2]$  ରେ କେଉଁ ପ୍ରକାର ସମବୟବତା ଦେଖାଯାଏ ?

- (1) ଜ୍ୟାମିତିକ ସମବୟବତା
- (2) ସଂଯୋଗୀ ସମବୟବତା
- (3) ଆୟୋନାଇଜେସନ୍ ସମବୟବତା
- (4) ସର୍ବ ସମବୟବତା

20. Identify the major products P, Q and R in the following sequence of reactions :

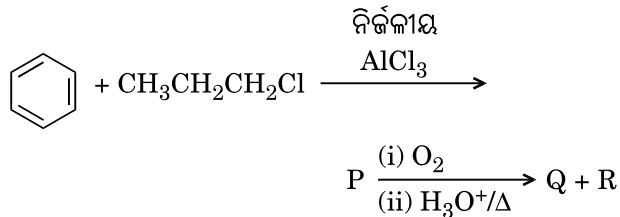


- |     | P | Q | R  |
|-----|---|---|--|
| (1) |   |   | $\text{CH}_3\text{CH}_2 - \text{OH}$         |
| (2) |   |   | $\text{CH}_3 - \text{CO} - \text{CH}_3$      |
| (3) |   |   | $\text{CH}_3\text{CH}(\text{OH})\text{CH}_3$ |
| (4) |   |   |  |

21. Which of the following compounds can form a zwitterion ?

- (1) Aniline
- (2) Glycine
- (3) Benzoic acid
- (4) Acetanilide

20. ନିମ୍ନଲିଖିତ ପ୍ରତିକ୍ରିୟା ଅନୁକ୍ରମରେ ମୁଖ୍ୟ ଉତ୍ପାଦ P, Q ଏବଂ R କୁ ଚିହ୍ନଟାଅ :



- |     | P | Q | R  |
|-----|---|---|--|
| (1) |   |   | $\text{CH}_3\text{CH}_2 - \text{OH}$         |
| (2) |   |   | $\text{CH}_3 - \text{CO} - \text{CH}_3$      |
| (3) |   |   | $\text{CH}_3\text{CH}(\text{OH})\text{CH}_3$ |
| (4) |   |   |  |

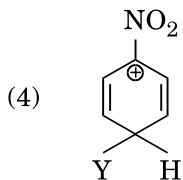
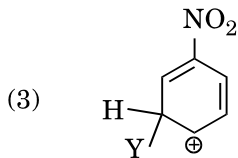
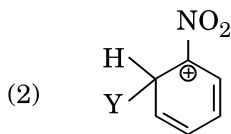
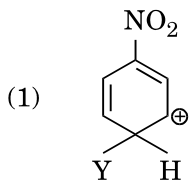
21. ନିମ୍ନଲିଖିତ ଯୌଗିକ ମାନଙ୍କ ମଧ୍ୟରୁ କିଏ ଛୁଇଟିଓଆୟନ ଗଠନ କରି ପାରିବ ?

- (1) ଏନିଲିନ୍
- (2) ଗ୍ଲାଇସିନ୍
- (3) ବେନ୍‌ଜୋଇକ୍ ଏସିଡ୍
- (4) ଏସିଟାନିଲାଇଡ୍

22. Which of the following molecules represents the order of hybridisation  $sp^2$ ,  $sp^2$ ,  $sp$ ,  $sp$  from left to right atoms ?

- (1)  $HC \equiv C - C \equiv CH$
- (2)  $CH_3 - CH = CH - CH_3$
- (3)  $CH_2 = CH - CH = CH_2$
- (4)  $CH_2 = CH - C \equiv CH$

23. Which of the following carbocations is expected to be most stable ?



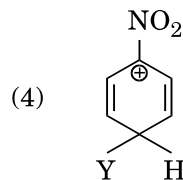
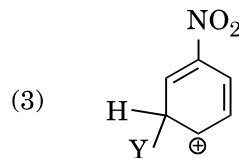
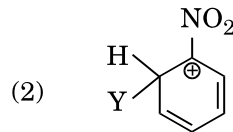
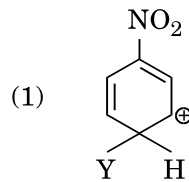
24. Which of the following is correct with respect to -I effect of the substituents ? (R = alkyl)

- (1)  $-NH_2 < -OR < -F$
- (2)  $-NR_2 > -OR > -F$
- (3)  $-NH_2 > -OR > -F$
- (4)  $-NR_2 < -OR < -F$

22. ନିମ୍ନଲିଖିତ ଅଣୁମାନଙ୍କ ମଧ୍ୟରୁ କିଏ  $sp^2$ ,  $sp^2$ ,  $sp$ ,  $sp$  କ୍ରମର ସଂକରଣ ବାମରୁ ଡାହାଣ ପରମାଣୁମାନଙ୍କ ମଧ୍ୟରେ ଦେଖାଏ

- (1)  $HC \equiv C - C \equiv CH$
- (2)  $CH_3 - CH = CH - CH_3$
- (3)  $CH_2 = CH - CH = CH_2$
- (4)  $CH_2 = CH - C \equiv CH$

23. ନିମ୍ନଲିଖିତ କାର୍ବୋକାଟାୟନ ମାନଙ୍କ ମଧ୍ୟରୁ କେଉଁଟି ସବୁଠାରୁ ସ୍ଥାୟୀ ବୋଲି ଆଶା କରାଯାଏ ?



24. ସର୍ବସ୍ୱୀକୃତ ମାନଙ୍କ ଅ - I ପ୍ରଭାବ ଅନୁଯାୟୀ ନିମ୍ନଲିଖିତ କେଉଁ କ୍ରମଟି ସଠିକ୍ ? (R = ଆଲକିଲ)

- (1)  $-NH_2 < -OR < -F$
- (2)  $-NR_2 > -OR > -F$
- (3)  $-NH_2 > -OR > -F$
- (4)  $-NR_2 < -OR < -F$

25. Magnesium reacts with an element (X) to form an ionic compound. If the ground state electronic configuration of (X) is  $1s^2 2s^2 2p^3$ , the simplest formula for this compound is

- (1)  $Mg_2X_3$
- (2)  $Mg_3X_2$
- (3)  $Mg_2X$
- (4)  $MgX_2$

26. Iron exhibits bcc structure at room temperature. Above  $900^\circ C$ , it transforms to fcc structure. The ratio of density of iron at room temperature to that at  $900^\circ C$  (assuming molar mass and atomic radii of iron remains constant with temperature) is

- (1)  $\frac{\sqrt{3}}{\sqrt{2}}$
- (2)  $\frac{1}{2}$
- (3)  $\frac{3\sqrt{3}}{4\sqrt{2}}$
- (4)  $\frac{4\sqrt{3}}{3\sqrt{2}}$

27. Which one is a **wrong** statement ?

- (1) Total orbital angular momentum of electron in 's' orbital is equal to zero.
- (2) The value of m for  $d_{z^2}$  is zero.
- (3) The electronic configuration of N atom is  

$$\begin{array}{ccc} 1s^2 & 2s^2 & 2p_x^1 \ 2p_y^1 \ 2p_z^1 \\ \boxed{\uparrow\downarrow} & \boxed{\uparrow\downarrow} & \boxed{\uparrow} \ \boxed{\uparrow} \ \boxed{\downarrow} \end{array}$$
- (4) An orbital is designated by three quantum numbers while an electron in an atom is designated by four quantum numbers.

28. Consider the following species :



Which one of these will have the highest bond order ?

- (1) NO
- (2) CN
- (3)  $CN^+$
- (4)  $CN^-$

25. ମ୍ୟାଗନିସିୟମ୍ ଏକ ମୌଳିକ (X) ସହିତ ପ୍ରତିକ୍ରିୟା କରି ଏକ ଆୟୋନିକ୍ ଯୌଗିକ ପ୍ରସ୍ତୁତ କରେ । ଯଦି ମୂଳ ଅବସ୍ଥାରେ (X) ର ଇଲେକ୍ଟ୍ରୋନିକ ବିନ୍ୟାସ  $1s^2 2s^2 2p^3$  ହୁଏ, ତାହେଲେ ଯୌଗିକର ସବୁଠୁ ସରଳ ସଂକେତଟି ହେଲା

- (1)  $Mg_2X_3$
- (2)  $Mg_3X_2$
- (3)  $Mg_2X$
- (4)  $MgX_2$

26. କମ୍ପାତମାତ୍ରାରେ ଆଇରନ୍ bcc ଆକୃତି ଦେଖାଏ ।  $900^\circ C$  ଉପରେ ଏହା fcc ରୂପାନ୍ତରିତ ହୁଏ । କମ୍ପାତମାତ୍ରା ଓ  $900^\circ C$  ରେ ଆଇରନ୍ର ଘନତ୍ଵର ଅନୁପାତଟି (ଆଇରନ୍ର ମୋଲାର ଏବଂ ଏଟମିକ ରାଡ଼ିଆଲକୁ ଡାପମାତ୍ରା ସହିତ ସ୍ଥିର ବୋଲି ଧରାଯାଉ)

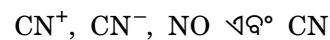
- (1)  $\frac{\sqrt{3}}{\sqrt{2}}$
- (2)  $\frac{1}{2}$
- (3)  $\frac{3\sqrt{3}}{4\sqrt{2}}$
- (4)  $\frac{4\sqrt{3}}{3\sqrt{2}}$

27. ନିମ୍ନଲିଖିତ ଉକ୍ତି ମଧ୍ୟରୁ କେଉଁଟି ଭୁଲ ?

- (1) 's' କକ୍ଷକରେ ଥିବା ଇଲେକ୍ଟ୍ରନ୍ର ସମସ୍ତ କକ୍ଷୀୟ କୋଣୀୟ ସଂବେଗ ଶୂନ୍ୟ ସହିତ ସମାନ ।
- (2)  $d_{z^2}$  ପାଇଁ m ର ମୂଲ୍ୟ ଶୂନ୍ୟ ।
- (3) N ପରମାଣୁର ଇଲେକ୍ଟ୍ରୋନିକ୍ ବିନ୍ୟାସଟି  

$$\begin{array}{ccc} 1s^2 & 2s^2 & 2p_x^1 \ 2p_y^1 \ 2p_z^1 \\ \boxed{\uparrow\downarrow} & \boxed{\uparrow\downarrow} & \boxed{\uparrow} \ \boxed{\uparrow} \ \boxed{\downarrow} \end{array}$$
- (4) ଏକ କକ୍ଷକ ତିନୋଟି କ୍ୱାଣ୍ଟମ୍ ନମ୍ବର ଦ୍ଵାରା ଚିହ୍ନିତ ହୁଏ ଏବଂ ଏକ ଇଲେକ୍ଟ୍ରନ୍ ଜାରୋଟି କ୍ୱାଣ୍ଟମ୍ ନମ୍ବର ଚିହ୍ନିତ ହୁଏ ।

28. ନିମ୍ନଲିଖିତ ବର୍ଗଗୁଡ଼ିକୁ ବିଚାରକୁ ନିଅ

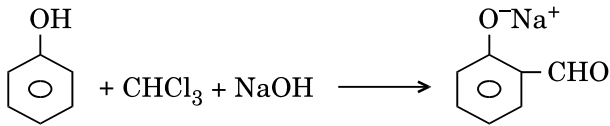


ତନ୍ମଧ୍ୟରୁ କାହାର ସବୁଠାରୁ ଅଧିକ ବନ୍ଧକ୍ରମ ?

- (1) NO
- (2) CN
- (3)  $CN^+$
- (4)  $CN^-$



29. In the reaction



the electrophile involved is

- (1) dichloromethyl cation ( $\text{CHCl}_2^+$ )
- (2) dichlorocarbene ( $:\text{CCl}_2$ )
- (3) dichloromethyl anion ( $^-\text{CHCl}_2$ )
- (4) formyl cation ( $\text{CHO}^+$ )

30. Carboxylic acids have higher boiling points than aldehydes, ketones and even alcohols of comparable molecular mass. It is due to their

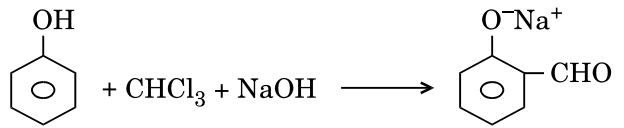
- (1) formation of intramolecular H-bonding
- (2) formation of intermolecular H-bonding
- (3) more extensive association of carboxylic acid via van der Waals force of attraction
- (4) formation of carboxylate ion

31. Compound A,  $\text{C}_8\text{H}_{10}\text{O}$ , is found to react with NaOI (produced by reacting Y with NaOH) and yields a yellow precipitate with characteristic smell.

A and Y are respectively

- (1)  $\text{H}_3\text{C}-\text{C}_6\text{H}_4-\text{CH}_2-\text{OH}$  and  $\text{I}_2$
- (2)  $\text{CH}_3-\text{C}_6\text{H}_3(\text{CH}_3)-\text{OH}$  and  $\text{I}_2$
- (3)  $\text{C}_6\text{H}_5-\text{CH}(\text{OH})-\text{CH}_3$  and  $\text{I}_2$
- (4)  $\text{C}_6\text{H}_5-\text{CH}_2-\text{CH}_2-\text{OH}$  and  $\text{I}_2$

29. ନିମ୍ନ ପ୍ରତିକ୍ରିୟାଟିରେ



କେଉଁ ଇଲେକ୍ଟ୍ରୋଫାଇଲ୍ ଜଡ଼ିତ ?

- (1) ଡାଇକ୍ଲୋରୋମିଥାଇଲ୍ କାଟାୟନ ( $\text{CHCl}_2^+$ )
- (2) ଡାଇକ୍ଲୋରୋ କାର୍ବିନ୍ ( $:\text{CCl}_2$ )
- (3) ଡାଇକ୍ଲୋରୋମିଥାଇଲ୍ ଏନାୟନ ( $^-\text{CHCl}_2$ )
- (4) ଫର୍ମିଲ୍ କାଟାୟନ ( $\text{CHO}^+$ )

30. କାର୍ବୋକ୍ସିଲିକ୍ ଅମ୍ଳମାନଙ୍କର ସ୍ଫୁଟନାଙ୍କ ତାର ତୁଳନୀୟ ଆଣବିକ ବୁରୁଡ଼ ଥିବା ଏଲଡିହାଇଡ଼, କିଟୋନ୍ ଏପରିକି ଆଲକୋହଲ୍ ଠାରୁ ମଧ୍ୟ ଅଧିକ । କାରଣ ଏହା

- (1) ଅଣୁମଧ୍ୟସ୍ଥ ଉଦ୍‌ଜାନ-ବନ୍ଧ ପାଇଁ
- (2) ଅନ୍ତଃ ଅଣୁକ ଉଦ୍‌ଜାନ-ବନ୍ଧ ପାଇଁ
- (3) କାର୍ବୋକ୍ସିଲିକ୍ ଅମ୍ଳ ଭାଣ୍ଡରବାଲ୍‌ଙ୍କ ଆକର୍ଷଣୀୟ ବଳଦ୍ୱାରା ବ୍ୟାପକ ଭାବରେ ସଂଶ୍ଳିଷ୍ଟ ଥାଏ
- (4) କାରବୋକ୍ସିଲେଟ୍ ଆୟନ ଗଠନ ପାଇଁ

31. ଯୌଗିକ A,  $\text{C}_8\text{H}_{10}\text{O}$  କୁ NaOI (Y ସହିତ NaOH ର ପ୍ରତିକ୍ରିୟାରୁ ଉତ୍ପନ୍ନ) ସହିତ ସଂଯୋଗକଲେ ଏକ ବିଶିଷ୍ଟ ଗନ୍ଧଯୁକ୍ତ ଗୋଟିଏ ହଳଦୀଆ ଅବପାତ ଦିଏ ।

A ଏବଂ Y ଯଥାକ୍ରମେ

- (1)  $\text{H}_3\text{C}-\text{C}_6\text{H}_4-\text{CH}_2-\text{OH}$  ଏବଂ  $\text{I}_2$
- (2)  $\text{CH}_3-\text{C}_6\text{H}_3(\text{CH}_3)-\text{OH}$  ଏବଂ  $\text{I}_2$
- (3)  $\text{C}_6\text{H}_5-\text{CH}(\text{OH})-\text{CH}_3$  ଏବଂ  $\text{I}_2$
- (4)  $\text{C}_6\text{H}_5-\text{CH}_2-\text{CH}_2-\text{OH}$  ଏବଂ  $\text{I}_2$

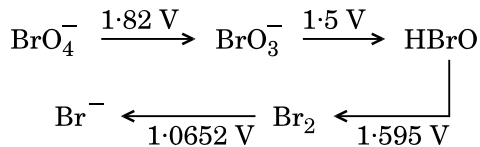
32. The correct difference between first- and second-order reactions is that

- (1) the rate of a first-order reaction does not depend on reactant concentrations; the rate of a second-order reaction does depend on reactant concentrations
- (2) the rate of a first-order reaction does depend on reactant concentrations; the rate of a second-order reaction does not depend on reactant concentrations
- (3) a first-order reaction can be catalyzed; a second-order reaction cannot be catalyzed
- (4) the half-life of a first-order reaction does not depend on  $[A]_0$ ; the half-life of a second-order reaction does depend on  $[A]_0$

33. Among  $\text{CaH}_2$ ,  $\text{BeH}_2$ ,  $\text{BaH}_2$ , the order of ionic character is

- (1)  $\text{BeH}_2 < \text{CaH}_2 < \text{BaH}_2$
- (2)  $\text{BaH}_2 < \text{BeH}_2 < \text{CaH}_2$
- (3)  $\text{BeH}_2 < \text{BaH}_2 < \text{CaH}_2$
- (4)  $\text{CaH}_2 < \text{BeH}_2 < \text{BaH}_2$

34. Consider the change in oxidation state of Bromine corresponding to different emf values as shown in the diagram below :



Then the species undergoing disproportionation is

- (1)  $\text{BrO}_3^-$
- (2)  $\text{HBrO}$
- (3)  $\text{Br}_2$
- (4)  $\text{BrO}_4^-$

35. In which case is the number of molecules of water maximum ?

- (1) 18 mL of water
- (2)  $10^{-3}$  mol of water
- (3) 0.00224 L of water vapours at 1 atm and 273 K
- (4) 0.18 g of water

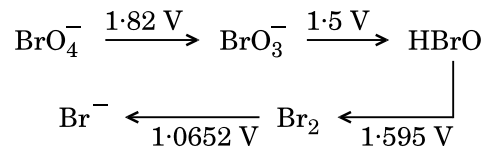
32. ପ୍ରଥମ କ୍ରମ ଓ ଦ୍ୱିତୀୟ କ୍ରମ ପ୍ରତିକ୍ରିୟାର ସଠିକ୍ ତାରତମ୍ୟଟି ହେଉଛି

- (1) ପ୍ରଥମ କ୍ରମ ପ୍ରତିକ୍ରିୟାର ହାର ପ୍ରତିକାରକର ସାନ୍ଦ୍ରତା ଉପରେ ନିର୍ଭର କରେ ନାହିଁ କିନ୍ତୁ ଦ୍ୱିତୀୟ କ୍ରମ ପ୍ରତିକାରକର ସାନ୍ଦ୍ରତା ଉପରେ ନିର୍ଭର କରେ
- (2) ପ୍ରଥମ କ୍ରମ ପ୍ରତିକ୍ରିୟାର ହାର ପ୍ରତିକାରକ ସାନ୍ଦ୍ରତା ଉପରେ ନିର୍ଭର କରେ କିନ୍ତୁ ଦ୍ୱିତୀୟ କ୍ରମ ପ୍ରତିକ୍ରିୟା ନିର୍ଭର କରେ ନାହିଁ
- (3) ପ୍ରଥମକ୍ରମ ପ୍ରତିକ୍ରିୟା ଉତ୍ତପ୍ରେରିତ ହୋଇ ପାରିବ କିନ୍ତୁ ଦ୍ୱିତୀୟ କ୍ରମ ପ୍ରତିକ୍ରିୟା ଉତ୍ତପ୍ରେରିତ ହୋଇ ପାରିବ ନାହିଁ
- (4) ପ୍ରଥମ କ୍ରମ ପ୍ରତିକ୍ରିୟାର ଅର୍ଦ୍ଧାୟୁ  $[A]_0$  ଉପରେ ନିର୍ଭର କରେ ନାହିଁ କିନ୍ତୁ ଦ୍ୱିତୀୟ କ୍ରମ ପ୍ରତିକ୍ରିୟାର ଅର୍ଦ୍ଧାୟୁ  $[A]_0$  ଉପରେ ନିର୍ଭର କରେ

33.  $\text{CaH}_2$ ,  $\text{BeH}_2$ ,  $\text{BaH}_2$  ମଧ୍ୟରେ ଆୟୋନିକ ଲକ୍ଷଣର କ୍ରମଟି

- (1)  $\text{BeH}_2 < \text{CaH}_2 < \text{BaH}_2$
- (2)  $\text{BaH}_2 < \text{BeH}_2 < \text{CaH}_2$
- (3)  $\text{BeH}_2 < \text{BaH}_2 < \text{CaH}_2$
- (4)  $\text{CaH}_2 < \text{BeH}_2 < \text{BaH}_2$

34. ନିମ୍ନଲିଖିତ ଚିତ୍ରଟିରେ ବ୍ରୋମିନର ବିଭିନ୍ନ ଇ.ଏମ୍.ଏଫ୍. (emf) ମୂଲ୍ୟ ସହିତ ଜାରଣ ଅବସ୍ଥାର ପରିବର୍ତ୍ତନକୁ ବିଚାର କର :



କେଉଁ ବର୍ଗଟିରେ ବିଅନୁପାତୀକରଣ ଘଟୁଛି ?

- (1)  $\text{BrO}_3^-$
- (2)  $\text{HBrO}$
- (3)  $\text{Br}_2$
- (4)  $\text{BrO}_4^-$

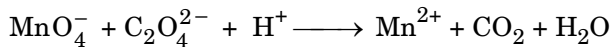
35. କେଉଁ ପରିସ୍ଥିତିରେ ଜଳର ଅଣୁସଂଖ୍ୟା ସର୍ବାଧିକ ?

- (1) 18 mL ଜଳ
- (2)  $10^{-3}$  ମୋଲ୍ ଜଳ
- (3) 0.00224 L ଜଳୀୟ ବାଷ୍ପ 1 atm ଏବଂ 273 K ରେ
- (4) 0.18 g ଜଳ

36. Regarding cross-linked or network polymers, which of the following statements is **incorrect** ?
- (1) They contain covalent bonds between various linear polymer chains.
  - (2) They contain strong covalent bonds in their polymer chains.
  - (3) Examples are bakelite and melamine.
  - (4) They are formed from bi- and tri-functional monomers.
37. Nitration of aniline in strong acidic medium also gives m-nitroaniline because
- (1) In spite of substituents nitro group always goes to only m-position.
  - (2) In acidic (strong) medium aniline is present as anilinium ion.
  - (3) In absence of substituents nitro group always goes to m-position.
  - (4) In electrophilic substitution reactions amino group is meta directive.
38. Which of the following oxides is most acidic in nature ?
- (1) MgO
  - (2) CaO
  - (3) BaO
  - (4) BeO
39. The difference between amylose and amylopectin is
- (1) Amylopectin have 1 → 4 α-linkage and 1 → 6 α-linkage
  - (2) Amylose is made up of glucose and galactose
  - (3) Amylopectin have 1 → 4 α-linkage and 1 → 6 β-linkage
  - (4) Amylose have 1 → 4 α-linkage and 1 → 6 β-linkage
40. A mixture of 2.3 g formic acid and 4.5 g oxalic acid is treated with conc. H<sub>2</sub>SO<sub>4</sub>. The evolved gaseous mixture is passed through KOH pellets. Weight (in g) of the remaining product at STP will be
- (1) 1.4
  - (2) 4.4
  - (3) 2.8
  - (4) 3.0

36. କ୍ରସ୍‌ଲିଙ୍କଡ୍ ଓ ନେଟୱର୍କ ପଲିମର ମାନଙ୍କ ବିଷୟରେ ନିମ୍ନଲିଖିତ କେଉଁ ଉକ୍ତିଟି **ଭୁଲ** ?
- (1) ବିଭିନ୍ନ ରୈଖିକ ବହୁଳକ ଶୃଙ୍ଖଳ ଭିତରେ ସହଯୋଗୀ ବନ୍ଧ ଥାଏ ।
  - (2) ବହୁଳକ ଶୃଙ୍ଖଳରେ ଦୃଢ଼ ସହଯୋଗୀବନ୍ଧ ଥାଏ ।
  - (3) ଉଦାହରଣ ସ୍ୱରୂପ ବେକ୍‌ଲାଇଟ୍ ଓ ମେଲ୍ୟାମାଇନ୍ ।
  - (4) ସେମାନେ ଦୁଇ ଏବଂ ତ୍ରିକ୍ରିୟାତ୍ମକ ମନୋମର ଠାରୁ ଗଠିତ ।
37. ଏନିଲିନ୍‌କୁ ତୀବ୍ର ଅମ୍ଳୀୟ ମାଧ୍ୟମରେ ନାଇଟ୍ରେସନ୍ କଲେ କିଛି m-ନାଇଟ୍ରୋଏନିଲିନ୍ ଦିଏ, କାରଣ
- (1) ସର୍ବସ୍ୱତନ୍ତ୍ର ସତ୍ତ୍ୱେ ନାଇଟ୍ରୋଗ୍ରୁପ୍ ସବୁବେଳେ କେବଳ m-ସ୍ଥାନକୁ ଯାଏ ।
  - (2) ତୀବ୍ର ଅମ୍ଳୀୟ ମାଧ୍ୟମରେ ଏନିଲିନ୍, ଏନିଲିନିୟମ୍ ଆୟନ ଭାବରେ ଥାଏ ।
  - (3) ସର୍ବସ୍ୱତନ୍ତ୍ର ଅନୁପସ୍ଥିତିରେ ନାଇଟ୍ରୋଗ୍ରୁପ୍ ସବୁବେଳେ m-ସ୍ଥାନକୁ ଯାଏ ।
  - (4) ଇଲେକ୍ଟ୍ରୋଫିଲିକ ପ୍ରତିସ୍ଥାପନ ପ୍ରତିକ୍ରିୟାରେ ଏମିନୋଗ୍ରୁପ୍‌ଟି m-ବିଶାସଦ ।
38. ନିମ୍ନଲିଖିତ ଅକ୍ସାଇଡସ୍ ମଧ୍ୟରୁ କିଏ ପ୍ରକୃତିରେ ସବୁଠାରୁ ଅଧିକ ଅମ୍ଳୀୟ ?
- (1) MgO
  - (2) CaO
  - (3) BaO
  - (4) BeO
39. ଏମାଇଲୋଜ୍ ଓ ଏମାଇଲୋପେକ୍ଟିନ୍ ମଧ୍ୟରେ ପ୍ରଭେଦ ହେଉଛି
- (1) ଏମାଇଲୋପେକ୍ଟିନ୍‌ର 1 → 4 α-ସଂଯୋଗ ଏବଂ 1 → 6 α-ସଂଯୋଗ ଅଛି
  - (2) ଏମାଇଲୋଜ୍ ଗ୍ଲୁକୋଜ୍ ଓ ଗାଲକ୍ଟୋଜ୍ ଦ୍ୱାରା ଗଠିତ
  - (3) ଏମାଇଲୋପେକ୍ଟିନ୍‌ର 1 → 4 α-ସଂଯୋଗ ଏବଂ 1 → 6 β-ସଂଯୋଗ ଅଛି
  - (4) ଏମାଇଲୋଜ୍‌ର 1 → 4 α-ସଂଯୋଗ ଏବଂ 1 → 6 β-ସଂଯୋଗ ଅଛି
40. 2.3 g ଫର୍ମିକ୍ ଅମ୍ଳ ଏବଂ 4.5 g ଅକ୍ସାଲିକ୍ ଅମ୍ଳର ମିଶ୍ରଣକୁ ଗାଢ଼ H<sub>2</sub>SO<sub>4</sub> ସଲଫ୍ୟୁରିକ୍ ଅମ୍ଳ ସହିତ ପ୍ରତିକ୍ରିୟା କରାଇଲେ ଯେଉଁ ବାସ୍ନୀୟ ମିଶ୍ରଣଟି ବାହାରିବ ତାକୁ KOH ଦାନା ଭିତରେ ଦେଇ ପ୍ରବାହିତ କଲାପରେ ଅବଶିଷ୍ଟ ଉତ୍ପାଦର ଓଜନ (g) STP ରେ କେତେ ହେବ ?
- (1) 1.4
  - (2) 4.4
  - (3) 2.8
  - (4) 3.0

41. For the redox reaction



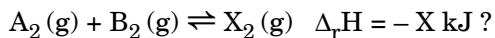
the correct coefficients of the reactants for the balanced equation are

	$\text{MnO}_4^-$	$\text{C}_2\text{O}_4^{2-}$	$\text{H}^+$
(1)	16	5	2
(2)	5	16	2
(3)	2	16	5
(4)	2	5	16

42. The correction factor 'a' to the ideal gas equation corresponds to

- (1) density of the gas molecules
- (2) forces of attraction between the gas molecules
- (3) electric field present between the gas molecules
- (4) volume of the gas molecules

43. Which one of the following conditions will favour maximum formation of the product in the reaction,



- (1) Low temperature and high pressure
- (2) High temperature and low pressure
- (3) High temperature and high pressure
- (4) Low temperature and low pressure

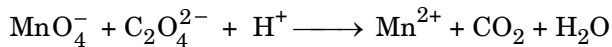
44. The bond dissociation energies of  $\text{X}_2$ ,  $\text{Y}_2$  and  $\text{XY}$  are in the ratio of 1 : 0.5 : 1.  $\Delta H$  for the formation of  $\text{XY}$  is  $-200 \text{ kJ mol}^{-1}$ . The bond dissociation energy of  $\text{X}_2$  will be

- (1)  $200 \text{ kJ mol}^{-1}$
- (2)  $400 \text{ kJ mol}^{-1}$
- (3)  $800 \text{ kJ mol}^{-1}$
- (4)  $100 \text{ kJ mol}^{-1}$

45. When initial concentration of the reactant is doubled, the half-life period of a zero order reaction

- (1) is halved
- (2) remains unchanged
- (3) is tripled
- (4) is doubled

41. ନିମ୍ନ ପ୍ରଦତ୍ତ ବିଜାରଣ-ଜାରଣ ପ୍ରତିକ୍ରିୟାର



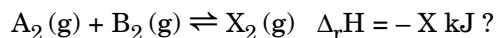
ସନ୍ତୁଳିତ ପ୍ରତିକ୍ରିୟାରେ ପ୍ରତିକାରକର ସଠିକ୍ ଗୁଣକ ଗୁଡ଼ିକ

	$\text{MnO}_4^-$	$\text{C}_2\text{O}_4^{2-}$	$\text{H}^+$
(1)	16	5	2
(2)	5	16	2
(3)	2	16	5
(4)	2	5	16

42. ଆଦର୍ଶ ବାଷ୍ପ ପ୍ରତିକ୍ରିୟାରେ ଶୁଦ୍ଧ କାରକ 'a' କାହା ସହିତ ଅନୁରୂପ

- (1) ବାଷ୍ପୀୟ ଅଣୁଗୁଡ଼ିକର ଘନତ୍ୱ
- (2) ବାଷ୍ପୀୟ ଅଣୁଗୁଡ଼ିକ ମଧ୍ୟରେ ଥିବା ଆକର୍ଷଣୀୟ ବଳ
- (3) ବାଷ୍ପୀୟ ଅଣୁଗୁଡ଼ିକ ମଧ୍ୟରେ ଥିବା ବୈଦ୍ୟୁତିକ କ୍ଷେତ୍ର
- (4) ବାଷ୍ପୀୟ ଅଣୁଗୁଡ଼ିକର ଆୟତନ

43. ନିମ୍ନପ୍ରଦତ୍ତ ସର୍ତ୍ତାବଳୀ ମଧ୍ୟରୁ କେଉଁଟି ପ୍ରତିକ୍ରିୟାଟିରେ ସର୍ବାଧିକ ଉତ୍ପାଦ ଗଠନ ପାଇଁ ସାହାଯ୍ୟ କରିବ



- (1) କମ୍ ଉତ୍ତାପ ଏବଂ ଅଧିକ ଚାପ
- (2) ଅଧିକ ଉତ୍ତାପ ଏବଂ କମ୍ ଚାପ
- (3) ଅଧିକ ଉତ୍ତାପ ଏବଂ ଚାପ
- (4) କମ୍ ଉତ୍ତାପ ଏବଂ ଚାପ

44.  $\text{X}_2$ ,  $\text{Y}_2$  ଏବଂ  $\text{XY}$  ର ବନ୍ଧ ବିଯୋଜନ ଶକ୍ତିର ଅନୁପାତଟି 1 : 0.5 : 1 ।  $\text{XY}$  ଗଠନ ପାଇଁ  $\Delta H = -200 \text{ kJ mol}^{-1}$  ହେଲେ  $\text{X}_2$  ର ବନ୍ଧ ବିଯୋଜନ ଶକ୍ତି ଟି

- (1)  $200 \text{ kJ mol}^{-1}$
- (2)  $400 \text{ kJ mol}^{-1}$
- (3)  $800 \text{ kJ mol}^{-1}$
- (4)  $100 \text{ kJ mol}^{-1}$

45. ଏକ ଅଭିକାରକର ପ୍ରାରମ୍ଭିକ ସାନ୍ଦ୍ରତା ଦ୍ୱିଗୁଣିତ କଲେ, ଶୂନ୍ୟକ୍ରମ ପ୍ରତିକ୍ରିୟାରେ ତାର ଅର୍ଦ୍ଧାୟୁକାଳଟି

- (1) ଅଧା ହୋଇଯାଏ
- (2) ଅପରିବର୍ତ୍ତିତ ରୁହେ
- (3) ତ୍ରିଗୁଣିତ ହୁଏ
- (4) ଦ୍ୱିଗୁଣିତ ହୁଏ

46. Which of the following is an occupational respiratory disorder ?

- (1) Anthracis
- (2) Emphysema
- (3) Botulism
- (4) Silicosis

47. Calcium is important in skeletal muscle contraction because it

- (1) binds to troponin to remove the masking of active sites on actin for myosin.
- (2) prevents the formation of bonds between the myosin cross bridges and the actin filament.
- (3) detaches the myosin head from the actin filament.
- (4) activates the myosin ATPase by binding to it.

48. Which of the following gastric cells indirectly help in erythropoiesis ?

- (1) Chief cells
- (2) Parietal cells
- (3) Goblet cells
- (4) Mucous cells

49. Match the items given in Column I with those in Column II and select the **correct** option given below :

Column I

Column II

- |               |                        |
|---------------|------------------------|
| a. Fibrinogen | i. Osmotic balance     |
| b. Globulin   | ii. Blood clotting     |
| c. Albumin    | iii. Defence mechanism |

a      b      c

- (1) iii    ii    i
- (2) ii    iii    i
- (3) i    iii    ii
- (4) i    ii    iii

46. ନିମ୍ନରେ ଦିଆଯାଇଥିବା କେଉଁଟି ବୃତ୍ତିଜନିତ ଶ୍ୱାସକ୍ରିୟା ଅସୁସ୍ଥତା ?

- (1) ଆନ୍ଥ୍ରାକ୍ସିସ୍
- (2) ଇମ୍ଫାଇସେମା
- (3) ବୋଟୁଲିଜିମ୍
- (4) ସିଲିକୋସିସ୍

47. ନିମ୍ନୋକ୍ତ କେଉଁ କାରଣ ପାଇଁ କଙ୍କାଳ ମାଂସପେଶୀ ସଂକୋଚନରେ କାଲ୍‌ସିୟମ୍ ମୁଖ୍ୟ ?

- (1) ଏହା ଟ୍ରୋପୋନିନ୍ ସହିତ ସଂଯୋଗହୋଇ ମାୟୋସିନ୍‌ର କ୍ରିୟାଶୀଳ ପାର୍ଶ୍ୱରୁ ମୁଖ୍ୟାନ୍ତୁ ଅପସାରଣ କରିଥାଏ ।
- (2) ମାୟୋସିନ୍ କ୍ରସ୍ ବ୍ରିଜ୍ ଓ ଆକ୍ଟିନ୍ ଫିଲାମେଣ୍ଟ ମଧ୍ୟରେ ବନ୍ଧନ ସୃଷ୍ଟିକୁ ପ୍ରତିରୋଧ କରିଥାଏ ।
- (3) ଆକ୍ଟିନ୍ ଫିଲାମେଣ୍ଟରୁ ମାୟୋସିନ୍‌ର ଅଗ୍ରଭାଗକୁ ଅଲଗା କରିଦେଇଥାଏ ।
- (4) ଏହା ସହିତ ସଂଯୋଗ ହୋଇ ମାୟୋସିନ୍ ଏଟିପିଏସ୍‌କୁ କ୍ରିୟାଶୀଳ କରିଥାଏ ।

48. ଲୋହିତ ରକ୍ତ କଣିକା ଗଠନରେ କେଉଁ ପାଚକ କୋଷ ପରୋକ୍ଷ ଭାବରେ ସାହାଯ୍ୟ କରିଥାଏ ?

- (1) ଚିଫ୍ କୋଷ
- (2) ପାରିଏଟାଲ୍ କୋଷ
- (3) ଗବ୍‌ଲେଟ୍ କୋଷ
- (4) ମ୍ୟୁକସ୍ କୋଷ

49. ଗ୍ରନ୍ଥ I ସହିତ ଗ୍ରନ୍ଥ II କୁ ସଠିକ୍ ସଂଯୋଗ କରି ପ୍ରଦତ୍ତ ବିକଳ୍ପ ମାନଙ୍କ ମଧ୍ୟରୁ ଠିକ୍ ଉତ୍ତରଟି ବାଛି :

ଗ୍ରନ୍ଥ I

ଗ୍ରନ୍ଥ II

- |                  |                         |
|------------------|-------------------------|
| a. ଫାଇବ୍ରିନୋଜେନ୍ | i. ଅସ୍‌ମୋଟିକ୍ ସନ୍ତୁଳନ   |
| b. ଗ୍ଲୋବୁଲିନ୍    | ii. ରକ୍ତକମାଟ ବାନ୍ଧିବା   |
| c. ଆଲ୍‌ବୁମିନ୍    | iii. ପ୍ରତିରକ୍ଷା ପ୍ରଣାଳୀ |

a      b      c

- (1) iii    ii    i
- (2) ii    iii    i
- (3) i    iii    ii
- (4) i    ii    iii

50. Which of the following hormones can play a significant role in osteoporosis ?

- (1) Aldosterone and Prolactin
- (2) Parathyroid hormone and Prolactin
- (3) Estrogen and Parathyroid hormone
- (4) Progesterone and Aldosterone

51. Which of the following is an amino acid derived hormone ?

- (1) Epinephrine
- (2) Estriol
- (3) Estradiol
- (4) Ecdysone

52. Which of the following structures or regions is **incorrectly** paired with its function ?

- (1) Medulla oblongata : controls respiration and cardiovascular reflexes.
- (2) Corpus callosum : band of fibers connecting left and right cerebral hemispheres.
- (3) Hypothalamus : production of releasing hormones and regulation of temperature, hunger and thirst.
- (4) Limbic system : consists of fibre tracts that interconnect different regions of brain; controls movement.

53. The transparent lens in the human eye is held in its place by

- (1) ligaments attached to the ciliary body
- (2) smooth muscles attached to the ciliary body
- (3) smooth muscles attached to the iris
- (4) ligaments attached to the iris

50. ନିମ୍ନୋକ୍ତ ହରମୋନ୍ ମାନଙ୍କ ମଧ୍ୟରୁ କେଉଁଟି ହାତରେ ଛିଦ୍ରାଳ ସୃଷ୍ଟିକରିବାରେ ଗୁରୁତ୍ୱପୂର୍ଣ୍ଣ ଭୂମିକା ଗ୍ରହଣ କରେ ?

- (1) ଆଲ୍ଡୋଷ୍ଟେରନ୍ ଏବଂ ପ୍ରୋଲାକ୍ଟିନ୍
- (2) ପାରାଥାଇରୋଏଡ୍, ହରମୋନ୍ ଏବଂ ପ୍ରୋଲାକ୍ଟିନ୍
- (3) ଇଷ୍ଟ୍ରୋଜେନ୍ ଏବଂ ପାରାଥାଇରୋଏଡ୍ ହରମୋନ୍
- (4) ପ୍ରୋଜେଷ୍ଟେରନ୍ ଏବଂ ଆଲ୍ଡୋଷ୍ଟେରନ୍

51. ନିମ୍ନରେ ଦିଆଯାଇଥିବା ମାନଙ୍କ ମଧ୍ୟରୁ କେଉଁଟି ଆମିନୋ ଏସିଡ୍ ରୁ ଉତ୍ପନ୍ନ ହୋଇଥିବା ହରମୋନ୍ ?

- (1) ଏପିନେଫ୍ରିନ୍
- (2) ଏସ୍ଟ୍ରିଓଲ୍
- (3) ଏସ୍ଟ୍ରାଡ଼ିଓଲ୍
- (4) ଏକ୍ଡାଇସୋନ୍

52. ନିମ୍ନରେ ଦିଆଯାଇଥିବା କେଉଁ ଗଠନ କିମ୍ବା ସ୍ଥାନ (ଶରୀର ଅଂଶ) ଏହାର କାର୍ଯ୍ୟ ସହିତ ଭୁଲ୍ ଭାବେ ସଂଯୋଗ ହୋଇଛି ?

- (1) ମେଡୁଲା ଅବ୍ଲଙ୍ଗାଟା : ଶ୍ୱାସକ୍ରିୟା ଏବଂ ହୃଦପିଣ୍ଡ ଓ ଧମନୀ ସମ୍ବନ୍ଧୀୟ ସ୍ୱତଃସ୍ପୃତ ପ୍ରତିକ୍ରିୟାକୁ ନିୟନ୍ତ୍ରଣ କରେ ।
- (2) କର୍ପସ୍ କାଲୋଜମ୍ : ବାମ ଓ ଦକ୍ଷିଣ ପ୍ରମୁଖକୁ ସଂଯୋଗ କରୁଥିବା ଫାଇବ୍ରିଲ୍ ରୁଚ୍ଛ ।
- (3) ହାଇପୋଥାଲାମସ୍ : ମୃତ୍ତ ହରମୋନ୍ ଉତ୍ପନ୍ନ କରିବା ଏବଂ ତାପ, କ୍ଷୁଧା ଏବଂ ଶୋଷ କୁ ନିୟନ୍ତ୍ରଣ କରିବା ।
- (4) ଲିମ୍ବିକ୍ ଅଙ୍ଗତନ୍ତ୍ର : ମସ୍ତିଷ୍କର ବିଭିନ୍ନ ସ୍ଥାନକୁ ଯୋଗ କରୁଥିବା ଫାଇବ୍ରିଲ୍ ଟ୍ରାକ୍ରେ ଗଠିତ; ଚଳନ ପଦ୍ଧତିକୁ ନିୟନ୍ତ୍ରଣ କରେ ।

53. ନିମ୍ନରେ ଦିଆଯାଇଥିବା ମାନଙ୍କ ମଧ୍ୟରୁ କାହା ଦ୍ୱାରା ମନୁଷ୍ୟ ଆଖିର ଗୁରୁତ୍ୱପୂର୍ଣ୍ଣ ଲେନ୍ସ କୁ ଏହାର ସ୍ଥାନରେ ଧରିରଖାଯାଇଥାଏ ?

- (1) ସିଲିଆରି ବଡି ସହିତ ସଂଯୁକ୍ତ ହୋଇଥିବା ଲିଗାମେଣ୍ଟ
- (2) ସିଲିଆରି ବଡି ସହିତ ସଂଯୁକ୍ତ ହୋଇଥିବା ମୁଥ୍ ମାଂସପେଶୀ
- (3) ଆଇରିସ୍ ସହିତ ସଂଯୁକ୍ତ ହୋଇଥିବା ମୁଥ୍ ମାଂସପେଶୀ
- (4) ଆଇରିସ୍ ସହିତ ସଂଯୁକ୍ତ ହୋଇଥିବା ଲିଗାମେଣ୍ଟ

54. Among the following sets of examples for divergent evolution, select the **incorrect** option :
- (1) Forelimbs of man, bat and cheetah
  - (2) Eye of octopus, bat and man
  - (3) Brain of bat, man and cheetah
  - (4) Heart of bat, man and cheetah
55. In which disease does mosquito transmitted pathogen cause chronic inflammation of lymphatic vessels ?
- (1) Elephantiasis
  - (2) Amoebiasis
  - (3) Ringworm disease
  - (4) Ascariasis
56. Which of the following is **not** an autoimmune disease ?
- (1) Psoriasis
  - (2) Vitiligo
  - (3) Alzheimer's disease
  - (4) Rheumatoid arthritis
57. Conversion of milk to curd improves its nutritional value by increasing the amount of
- (1) Vitamin D
  - (2) Vitamin E
  - (3) Vitamin B<sub>12</sub>
  - (4) Vitamin A
58. Which of the following characteristics represent 'Inheritance of blood groups' in humans ?
- a. Dominance
  - b. Co-dominance
  - c. Multiple allele
  - d. Incomplete dominance
  - e. Polygenic inheritance
- (1) b, c and e
  - (2) a, c and e
  - (3) b, d and e
  - (4) a, b and c
59. The similarity of bone structure in the forelimbs of many vertebrates is an example of
- (1) Homology
  - (2) Adaptive radiation
  - (3) Convergent evolution
  - (4) Analogy

54. ନିମ୍ନରେ ଦିଆଯାଇଥିବା ଉଦାହରଣ ଗୁଡ଼ିକ ମାନଙ୍କ ମଧ୍ୟରୁ କେଉଁଟି ଡାଇଭରଜେଣ୍ଟ ବିବର୍ତନ ପାଇଁ ଭୁଲ୍ ଡାହା ବାଛ :
- (1) ମନୁଷ୍ୟର ହାତ (ଅଗ୍ରବାହୁ), ବାଦୁଡ଼ି ଏବଂ ଚିତାବାଘ
  - (2) ଅକ୍ଟୋପସ୍ ର ଆଖି, ବାଦୁଡ଼ି ଏବଂ ମନୁଷ୍ୟ
  - (3) ବାଦୁଡ଼ିର ମସ୍ତିଷ୍କ, ମନୁଷ୍ୟ ଏବଂ ଚିତାବାଘ
  - (4) ବାଦୁଡ଼ିର ହୃଦ୍ପିଣ୍ଡ, ମନୁଷ୍ୟ ଏବଂ ଚିତାବାଘ
55. କେଉଁ ରୋଗରେ ମଶା ରୋଗ-କାରକକୁ ସଞ୍ଚାରିତ କରି ଦୀର୍ଘକାଳ ଧରି ଲିମ୍ଫ ଭେସଲରେ ପ୍ରଦାହ ସୃଷ୍ଟିକରେ ?
- (1) ଏଲିଫାଣ୍ଟିଆସିସ୍
  - (2) ଏମୋବିଆସିସ୍
  - (3) ରିଙ୍ଗ୍ ୱାଉର୍ମ ରୋଗ
  - (4) ଆସ୍କାରିଆସିସ୍
56. ନିମ୍ନରେ ଦିଆଯାଇଥିବା ମାନଙ୍କ ମଧ୍ୟରୁ କେଉଁଟି ସ୍ୱପ୍ରତିରକ୍ଷା ହାନିକାରକ (ଅଟୋଇମ୍ୟୁନ) ରୋଗ ନୁହେଁ ?
- (1) ସୋରିଆସିସ୍
  - (2) ଭିଟିଲିଗୋ
  - (3) ଆଲଜେମରସ୍ ରୋଗ
  - (4) ର୍ୟୁମାଟିସ୍ ଆଥ୍ରାଇଟିସ୍ (ଆଣ୍ଟିଜେନିକ ବାତ)
57. ଦୁଗ୍ଧ ଦହିରେ ପରିଣତ ହେଲେ, କାହାର ପରିମାଣରେ ବୃଦ୍ଧି ହୋଇ, ଏହାର ପୋଷକ ଗୁଣରେ ଉନ୍ନତି ଆସିଥାଏ ?
- (1) ଜୀବସାର D
  - (2) ଜୀବସାର E
  - (3) ଜୀବସାର B<sub>12</sub>
  - (4) ଜୀବସାର A
58. ନିମ୍ନୋକ୍ତ କେଉଁ ଗୁଣଗୁଡ଼ିକ 'ରକ୍ତବର୍ଗର ବଂଶଗତିକୁ' ବର୍ଣ୍ଣନା କରେ ?
- a. ପ୍ରଭାବୀ (ଡୋମିନାନ୍ସ)
  - b. ସହ ପ୍ରଭାବୀ (କୋ-ଡୋମିନାନ୍ସ)
  - c. ବହୁ ଯୁଗ୍ମବିକଳ୍ପୀ (ମଲ୍ଟିପୁଲ୍ ଆଲିଲ୍)
  - d. ଅସମ୍ପୂର୍ଣ୍ଣ ପ୍ରଭାବୀ (ଇନ୍କମ୍ପ୍ଲିଟ୍ ଡୋମିନାନ୍ସ)
  - e. ପଲିଜେନିକ୍ ଇନ୍‌ହେରିଟାନ୍ସ
- (1) b, c ଏବଂ e
  - (2) a, c ଏବଂ e
  - (3) b, d ଏବଂ e
  - (4) a, b ଏବଂ c
59. ବହୁତ ମେରୁଦଣ୍ଡୀ ମାନଙ୍କର ଅଗ୍ରବାହୁ ଅସ୍ଥିଗଠନ ରେ ସମାନତା ର ଉଦାହରଣ ହେଉଛି
- (1) ସମଜାତୀୟତା (ହୋମୋଲୋଜି)
  - (2) ଆଡାପ୍ଟିଭ୍ ରେଡିଏସନ୍
  - (3) କନ୍ଭରଜେଣ୍ଟ ବିବର୍ତନ
  - (4) ଅନୁରୂପତା (ଆନାଲୋଜି)

60. Which of the following animals does **not** undergo metamorphosis ?
- (1) Earthworm
  - (2) Starfish
  - (3) Moth
  - (4) Tunicate
61. Which one of these animals is **not** a homeotherm ?
- (1) *Macropus*
  - (2) *Psittacula*
  - (3) *Camelus*
  - (4) *Chelone*
62. Which of the following features is used to identify a male cockroach from a female cockroach ?
- (1) Presence of a boat shaped sternum on the 9<sup>th</sup> abdominal segment
  - (2) Presence of anal cerci
  - (3) Forewings with darker tegmina
  - (4) Presence of caudal styles
63. Which of the following organisms are known as chief producers in the oceans ?
- (1) Dinoflagellates
  - (2) Euglenoids
  - (3) Cyanobacteria
  - (4) Diatoms
64. Ciliates differ from all other protozoans in
- (1) using flagella for locomotion
  - (2) having two types of nuclei
  - (3) using pseudopodia for capturing prey
  - (4) having a contractile vacuole for removing excess water
65. Identify the vertebrate group of animals characterized by crop and gizzard in its digestive system.
- (1) Amphibia
  - (2) Osteichthyes
  - (3) Aves
  - (4) Reptilia

60. ନିମ୍ନରେ ଦିଆଯାଇଥିବା କେଉଁ ପ୍ରାଣୀ ର ରୂପାନ୍ତର ହୁଏ ନାହିଁ ?
- (1) ଜିଆ
  - (2) ସମୁଦ୍ର ତାରା
  - (3) ମଥୁ
  - (4) ଟ୍ୟୁନିକେଟ୍
61. ନିମ୍ନରେ ଦିଆଯାଇଥିବା ପ୍ରାଣୀମାନଙ୍କ ମଧ୍ୟରୁ କେଉଁଟି ଘୃଣିତପୀ ହୁଏ ?
- (1) ମେକ୍‌ଡ୍ରୋପସ
  - (2) ସିଟ୍ଟେକ୍‌ଲା
  - (3) କେମେଲସ
  - (4) କିଲୋନ
62. ନିମ୍ନରେ ଦିଆଯାଇଥିବା କେଉଁ ଶାରିରୀକ ଗଠନ ଗୋଟିଏ ଅଣ୍ଡିରା ଅସରପା କୁ ମାଈ ଅସରପା ଠାରୁ ଚିହ୍ନଟ କରିବା ପାଇଁ ବ୍ୟବହାର କରାଯାଏ ?
- (1) ନବମ ଉଦରୀୟ କକ୍ଷ (ଶରୀରର କାୟାଖଣ୍ଡ) ଉପରେ ଡଙ୍ଗା ଆକୃତି ଷ୍ଟରନମ୍ ର ଉପସ୍ଥିତି
  - (2) ଆନାଲ୍ ସିରି ର ଉପସ୍ଥିତି
  - (3) ଆଗ ପକ୍ଷରେ ଗାଡ଼ ରଙ୍ଗର ଟେଗ୍‌ମିନା ଥାଏ
  - (4) କାଡଲ୍ ଷ୍ଟାଇଲ୍ ର ଉପସ୍ଥିତି
63. ନିମ୍ନୋକ୍ତ କେଉଁ ଜୀବ ମହାସାଗରରେ ମୁଖ୍ୟ ଉତ୍ପାଦକ ଅଟେ ?
- (1) ଡିନୋଫ୍ଲାଜେଲେଟସ୍
  - (2) ଇଉଗ୍ଲିନଏଡ୍
  - (3) ସାଇନୋବ୍ୟାକ୍ଟେରିଆ (ନୀଳହରିଡ଼ ଶୈବାଳ)
  - (4) ଡାଇଟମସ୍
64. ସିଲିଆ ଥିବା ପ୍ରୋଟୋଜୋଆ ମାନେ ଅନ୍ୟ ପ୍ରୋଟୋଜୋଆ ଜୀବମାନଙ୍କ ଠାରୁ ନିମ୍ନୋକ୍ତ କେଉଁ କାରଣରୁ ଭିନ୍ନ ହୋଇଥାନ୍ତି ?
- (1) ଚଳନ କ୍ରିୟା ପାଇଁ ଫ୍ଲାଜେଲା ବ୍ୟବହାର କରନ୍ତି
  - (2) ସେମାନଙ୍କର ଦୁଇ ପ୍ରକାରର ନ୍ୟଷ୍ଟି ଥାଏ
  - (3) ଶିକାର ଧରିବାପାଇଁ କୃତ୍ରିମାଦକୁ ବ୍ୟବହାର କରେ
  - (4) ଜଳ ନିଷ୍କାସନ ପାଇଁ ସେମାନଙ୍କର କଣ୍ଟ୍ରାକ୍ଟାଇଲ୍ ଭାକ୍ୟୁଲ ଥାଏ
65. ନିମ୍ନରେ ଦିଆଯାଇଥିବା ପ୍ରାଣୀମାନଙ୍କ ମଧ୍ୟରୁ ଯେଉଁ ମେରୁଦଣ୍ଡୀ ପ୍ରାଣୀର ଖାଦ୍ୟମୁଣା (କ୍ରପ) ଏବଂ ଗିଜାର୍ଡ (ପୋଷଣୀ) ଅଛି ତାହାକୁ ଚିହ୍ନଟ କର ।
- (1) ଉଭୟଚର (ଏମ୍ଫିବିଆ)
  - (2) ଅଷ୍ଟେଇଚ୍ ଥାଇସ୍ ବା ମସ୍ତକାତୀୟ
  - (3) ପକ୍ଷୀ ବା ବିହଙ୍ଗ (ଏବିଜ୍)
  - (4) ସରୀସୃପ (ରେପଟିଲିୟା)



- 66.** The amnion of mammalian embryo is derived from
- (1) ectoderm and mesoderm
  - (2) ectoderm and endoderm
  - (3) mesoderm and trophoblast
  - (4) endoderm and mesoderm
- 67.** Hormones secreted by the placenta to maintain pregnancy are
- (1) hCG, hPL, progestogens, prolactin
  - (2) hCG, progestogens, estrogens, glucocorticoids
  - (3) hCG, hPL, progestogens, estrogens
  - (4) hCG, hPL, estrogens, relaxin, oxytocin
- 68.** The contraceptive 'SAHELI'
- (1) blocks estrogen receptors in the uterus, preventing eggs from getting implanted.
  - (2) is a post-coital contraceptive.
  - (3) is an IUD.
  - (4) increases the concentration of estrogen and prevents ovulation in females.
- 69.** The difference between spermiogenesis and spermiation is
- (1) In spermiogenesis spermatids are formed, while in spermiation spermatozoa are formed.
  - (2) In spermiogenesis spermatozoa are formed, while in spermiation spermatozoa are released from sertoli cells into the cavity of seminiferous tubules.
  - (3) In spermiogenesis spermatozoa from sertoli cells are released into the cavity of seminiferous tubules, while in spermiation spermatozoa are formed.
  - (4) In spermiogenesis spermatozoa are formed, while in spermiation spermatids are formed.

- 66.** ସ୍ତନ୍ୟପାୟୀ ପ୍ରାଣୀମାନଙ୍କର ଭ୍ରୂଣ ର ଆମ୍ନିଓନ୍ କେଉଁଥିରୁ ମିଳିଥାଏ ?
- (1) ଏକ୍ଟୋଡର୍ମ ଏବଂ ମେଜୋଡର୍ମ
  - (2) ଏକ୍ଟୋଡର୍ମ ଏବଂ ଏଣ୍ଡୋଡର୍ମ
  - (3) ମେଜୋଡର୍ମ ଏବଂ ଟ୍ରୋଫୋବ୍ଲାଷ୍ଟ
  - (4) ଏଣ୍ଡୋଡର୍ମ ଏବଂ ମେଜୋଡର୍ମ
- 67.** ଗର୍ଭଧାରଣକୁ ସ୍ଥିରାବସ୍ଥାରେ ରଖିବାପାଇଁ ଭ୍ରୂଣବନ୍ଧରୁ ନିସ୍ତୃତ ହେଉଥିବା ହରମୋନ୍ ଗୁଡ଼ିକ ହେଲା
- (1) hCG, hPL, ପ୍ରୋଜେଷ୍ଟୋଜେନ୍, ପ୍ରୋଲାକ୍ଟିନ୍
  - (2) hCG, ପ୍ରୋଜେଷ୍ଟୋଜେନ୍, ଇଷ୍ଟ୍ରୋଜେନ୍, ଗ୍ଲୁକୋକର୍ଟିକଏଡସ୍
  - (3) hCG, hPL, ପ୍ରୋଜେଷ୍ଟୋଜେନ୍, ଇଷ୍ଟ୍ରୋଜେନ୍
  - (4) hCG, hPL, ଇଷ୍ଟ୍ରୋଜେନ୍, ରିଲାକ୍ସିନ୍, ଅକ୍ସିଟୋସିନ୍
- 68.** ଗର୍ଭନିରୋଧକ 'ସହେଲି'
- (1) ଇଷ୍ଟ୍ରୋଜେନ୍ ରିସେପ୍ଟର୍ ମାନଙ୍କୁ ଗର୍ଭାଶୟ ମଧ୍ୟରେ ଅବରୋଧ କରି ଗର୍ଭାଶୟରେ ଡିମ୍ବ ଅନ୍ତଃରୋପଣ ହେବାକୁ ରୋକିଥାଏ ।
  - (2) ଏହାଏକ ରତିକ୍ରିୟା ପର ଗର୍ଭନିରୋଧକ ।
  - (3) ଏହା ଏକ IUD ।
  - (4) ଇଷ୍ଟ୍ରୋଜେନ୍ର ସାନ୍ଦ୍ରତା ବୃଦ୍ଧିକରି ନାରୀ ମାନଙ୍କର ଡିମ୍ବକ ସୃଷ୍ଟିରେ ବାଧା ଦିଏ ।
- 69.** ସ୍ପର୍ମିଓଜେନେସିସ୍ ଓ ସ୍ପର୍ମିଏସନ୍ ମଧ୍ୟରେ କ'ଣ ତଫାତ୍ ?
- (1) ସ୍ପର୍ମିଓଜେନେସିସ୍ରେ ସ୍ପର୍ମାଟିଡ୍ ସୃଷ୍ଟି ହୋଇଥାଏ ଯେତେବେଳେ କି ସ୍ପର୍ମିଏସନ୍ ରେ ସ୍ପର୍ମାଟୋଜୋଆ ସୃଷ୍ଟି ହୋଇଥାଏ ।
  - (2) ସ୍ପର୍ମିଓଜେନେସିସ୍ରେ ସ୍ପର୍ମାଟୋଜୋଆ ସୃଷ୍ଟି ହୋଇଥାଏ ଯେତେବେଳେ କି ସ୍ପର୍ମିଏସନ୍ରେ ସେମିନିଫେରସ୍ ଟ୍ୟୁବୁଲ୍ସକୁ ସ୍ପର୍ମାଟୋଜୋଆ ମାନେ ଛଡ଼ାହୁଅନ୍ତି ।
  - (3) ସ୍ପର୍ମିଓଜେନେସିସ୍ରେ ସର୍ଟୋଲି କୋଷରୁ ସ୍ପର୍ମାଟୋଜୋଆ ସେମିନିଫେରସ୍ ଟ୍ୟୁବୁଲ୍ସ କୁ ଛଡ଼ାହୋଇଥାଆନ୍ତି ଏବଂ ସ୍ପର୍ମିଏସନ୍ରେ ସ୍ପର୍ମାଟୋଜୋଆ ସୃଷ୍ଟିହୋଇଥାଏ ।
  - (4) ସ୍ପର୍ମିଓଜେନେସିସ୍ରେ ସ୍ପର୍ମାଟୋଜୋଆ ସୃଷ୍ଟି ହୋଇଥାଏ, ଯେତେବେଳେ କି ସ୍ପର୍ମିଏସନ୍ରେ ସ୍ପର୍ମାଟିଡ୍ ସୃଷ୍ଟି ହୋଇଥାଏ ।

70. In a growing population of a country,
- (1) pre-reproductive individuals are more than the reproductive individuals.
  - (2) pre-reproductive individuals are less than the reproductive individuals.
  - (3) reproductive and pre-reproductive individuals are equal in number.
  - (4) reproductive individuals are less than the post-reproductive individuals.

71. Match the items given in Column I with those in Column II and select the **correct** option given below :

Column I

Column II

- |                      |                          |
|----------------------|--------------------------|
| a. Eutrophication    | i. UV-B radiation        |
| b. Sanitary landfill | ii. Deforestation        |
| c. Snow blindness    | iii. Nutrient enrichment |
| d. Jhum cultivation  | iv. Waste disposal       |

- |     | a   | b   | c   | d   |
|-----|-----|-----|-----|-----|
| (1) | ii  | i   | iii | iv  |
| (2) | i   | ii  | iv  | iii |
| (3) | iii | iv  | i   | ii  |
| (4) | i   | iii | iv  | ii  |

72. Which part of poppy plant is used to obtain the drug "Smack" ?

- (1) Flowers
- (2) Leaves
- (3) Roots
- (4) Latex

73. Which one of the following population interactions is widely used in medical science for the production of antibiotics ?

- (1) Commensalism
- (2) Amensalism
- (3) Parasitism
- (4) Mutualism

74. All of the following are included in 'Ex-situ conservation' *except*

- (1) Wildlife safari parks
- (2) Seed banks
- (3) Botanical gardens
- (4) Sacred groves

70. ଗୋଟିଏ ଦେଶର ବୃଦ୍ଧି ହେଉଥିବା ଜନସଂଖ୍ୟାରେ

- (1) ଜନ୍ମକ୍ଷମତାହାସଲ ନ କରିଥିବା ବ୍ୟକ୍ତିମାନେ, ଜନ୍ମକ୍ଷମତାହାସଲ ଥିବା ବ୍ୟକ୍ତି ମାନଙ୍କଠାରୁ ଅଧିକ ସଂଖ୍ୟାରେ ଥାଆନ୍ତି ।
- (2) ଜନ୍ମକ୍ଷମତା ହାସଲ ନ କରିଥିବା ବ୍ୟକ୍ତିମାନେ, ଜନ୍ମକ୍ଷମତା ବ୍ୟକ୍ତି ମାନଙ୍କ ଠାରୁ କମ୍ ସଂଖ୍ୟାରେ ଥାଆନ୍ତି ।
- (3) ଜନ୍ମକ୍ଷମତା ଥିବା ବ୍ୟକ୍ତିମାନଙ୍କ ସଂଖ୍ୟା ଏବଂ ଜନ୍ମକ୍ଷମତା ହାସଲ ନ କରିଥିବା ବ୍ୟକ୍ତିଙ୍କ ସଂଖ୍ୟା ସମାନ ଥାଏ ।
- (4) ଜନ୍ମକ୍ଷମତା ବ୍ୟକ୍ତିମାନେ, ଜନ୍ମକ୍ଷମତାହରାଜଥିବା ବ୍ୟକ୍ତିମାନଙ୍କ ଠାରୁ କମ୍ ସଂଖ୍ୟାରେ ଥାଆନ୍ତି ।

71. ଗ୍ରହ I ସହିତ ଗ୍ରହ II କୁ ସଠିକ୍ ସଂଯୋଗ କରି ପ୍ରଦତ୍ତ ବିକଳ୍ପ ମାନଙ୍କ ମଧ୍ୟରୁ ଠିକ୍ ଉତ୍ତରଟି ବାଛି :

ଗ୍ରହ I

ଗ୍ରହ II

- |                         |                          |
|-------------------------|--------------------------|
| a. ୟୁଟ୍ରିଫିକେସନ୍        | i. UV-B ବିକିରଣ           |
| b. ସାନିଟାରୀ ଲ୍ୟାଣ୍ଡଫିଲ୍ | ii. ଜଙ୍ଗଲନାଶ             |
| c. ସ୍ନୋ ବ୍ଲାଇଣ୍ଡନେସ୍    | iii. ପୋଷକ ପରିପୂର୍ଣ୍ଣ     |
| d. ଝୁମ୍ ଜାଷ             | iv. ବର୍ଜ୍ୟବସ୍ତୁ ନିଷ୍କାସନ |

- |     | a   | b   | c   | d   |
|-----|-----|-----|-----|-----|
| (1) | ii  | i   | iii | iv  |
| (2) | i   | ii  | iv  | iii |
| (3) | iii | iv  | i   | ii  |
| (4) | i   | iii | iv  | ii  |

72. "ସ୍ମୋକ୍" ଡ୍ରଗ୍ ପାଇବାପାଇଁ ପପି ଉଦ୍ଭିଦର କେଉଁ ଅଂଶକୁ ବ୍ୟବହାର କରାଯାଏ ?

- (1) ଫୁଲ
- (2) ପତ୍ର
- (3) ଚେର
- (4) ଗଛର କ୍ଷୀର (ଲେଟେକ୍ସ)

73. ଭେଷଜ ବିଜ୍ଞାନ କ୍ଷେତ୍ରରେ ପ୍ରତିଜୈବିକ ଉତ୍ପାଦନରେ ନିମ୍ନରେ ଦିଆଯାଇଥିବା କେଉଁ ଜନସଂଖ୍ୟାର ଅନ୍ତର୍ଭୁକ୍ତ ବସ୍ତୁ ଭାବରେ ବ୍ୟବହାର କରାଯାଏ ?

- (1) ସହଭୋଜିତା
- (2) ଏମେନ୍ସାଲିଜ୍ମ
- (3) ପରଜୀବୀତା
- (4) ପାରସ୍ପରିକ ସମ୍ପର୍କ

74. ନିମ୍ନୋକ୍ତ କେଉଁଗୋଟିକୁ ବାଦ୍ ଦେଇ ଅନ୍ୟ ସମସ୍ତ ପ୍ରଜାତିମାନଙ୍କୁ ସେମାନଙ୍କର ପ୍ରାକୃତିକ 'ପରିବେଶ ବାହାରେ ସଂରକ୍ଷିତ' କରିବା ବ୍ୟବସ୍ଥାରେ ଅନ୍ତର୍ଭୁକ୍ତ ?

- (1) ଝାଞ୍ଜଲ୍ ଲାଇଫ୍ ସାଫାରୀ ପାର୍କ
- (2) ସିଡ୍ ବ୍ୟାଙ୍କ
- (3) ଉଦ୍ଭିଦ ଉଦ୍ୟାନ
- (4) ସାକ୍ରେଡ୍ ଗ୍ରୁଭସ୍

75. Match the items given in Column I with those in Column II and select the **correct** option given below :

<i>Column I</i>		<i>Column II</i>	
a. Glycosuria	i. Accumulation of uric acid in joints		
b. Gout	ii. Mass of crystallised salts within the kidney		
c. Renal calculi	iii. Inflammation in glomeruli		
d. Glomerular nephritis	iv. Presence of glucose in urine		

	<b>a</b>	<b>b</b>	<b>c</b>	<b>d</b>
(1)	iii	ii	iv	i
(2)	iv	i	ii	iii
(3)	ii	iii	i	iv
(4)	i	ii	iii	iv

76. Match the items given in Column I with those in Column II and select the **correct** option given below :

<i>Column I</i>		<i>Column II</i>	
<i>(Function)</i>		<i>(Part of Excretory System)</i>	
a. Ultrafiltration	i. Henle's loop		
b. Concentration of urine	ii. Ureter		
c. Transport of urine	iii. Urinary bladder		
d. Storage of urine	iv. Malpighian corpuscle		
	v. Proximal convoluted tubule		

	<b>a</b>	<b>b</b>	<b>c</b>	<b>d</b>
(1)	iv	v	ii	iii
(2)	v	iv	i	iii
(3)	v	iv	i	ii
(4)	iv	i	ii	iii

75. ଗ୍ରହ I ସହିତ ଗ୍ରହ II କୁ ସଠିକ୍ ସଂଯୋଗ କରି ପ୍ରଦତ୍ତ ବିକଳ୍ପ ମାନଙ୍କ ମଧ୍ୟରୁ ଠିକ୍ ଉତ୍ତରଟି ବାଛି :

<i>ଗ୍ରହ I</i>		<i>ଗ୍ରହ II</i>	
a. ଗ୍ଲାଉକୋସୁରିଆ	i. ଗଣ୍ଠିମାନଙ୍କରେ ଘୂରିକ୍ ଅମ୍ଳ ଜମା ହେବା		
b. ଗାଉର୍	ii. ବୃକ୍କ ମଧ୍ୟରେ ଲବଣ ସ୍ଫଟିକ ସ୍ତମ୍ଭ		
c. ରେନାଲ୍ କୈଲକ୍ୟୁଲାରି	iii. କୌଶିକ ଗୁଚ୍ଛ ମାନଙ୍କରେ ଫୁଲା		
d. ଗ୍ଲୋମେରୁଲାର୍ ନେଫ୍ରିଟିସ୍	iv. ମୂତ୍ରରେ ଗ୍ଲୁକୋଜ୍ ର ଉପସ୍ଥିତି		

	<b>a</b>	<b>b</b>	<b>c</b>	<b>d</b>
(1)	iii	ii	iv	i
(2)	iv	i	ii	iii
(3)	ii	iii	i	iv
(4)	i	ii	iii	iv

76. ଗ୍ରହ I ସହିତ ଗ୍ରହ II କୁ ସଠିକ୍ ସଂଯୋଗ କରି ପ୍ରଦତ୍ତ ବିକଳ୍ପ ମାନଙ୍କ ମଧ୍ୟରୁ ଠିକ୍ ଉତ୍ତରଟି ବାଛି :

<i>ଗ୍ରହ I</i>		<i>ଗ୍ରହ II</i>	
<i>(କାର୍ଯ୍ୟ)</i>		<i>(ଉତ୍ସର୍ଜନ ତନ୍ତ୍ରରଭାଗ)</i>	
a. ଅଲ୍ଟ୍ରା ପରିସ୍ରବଣ	i. ହେନେଲସ୍ ଲୁପ		
b. ମୂତ୍ର ର ସାନ୍ଦ୍ରତା	ii. ମୂତ୍ର ସାରଣୀ		
c. ମୂତ୍ର ର ପରିବହନ	iii. ମୂତ୍ରାଶୟ		
d. ମୂତ୍ର ସଞ୍ଚୟ	iv. ମାଲପିଗିଆନ୍ କର୍ପସ୍କଲ୍		
	v. ପ୍ରୋକ୍ସିମାଲ୍ କନ୍ଭୋଲୁଟେଡ୍ ଟ୍ୟୁବୁଲ୍		

	<b>a</b>	<b>b</b>	<b>c</b>	<b>d</b>
(1)	iv	v	ii	iii
(2)	v	iv	i	iii
(3)	v	iv	i	ii
(4)	iv	i	ii	iii

77. A woman has an X-linked condition on one of her X chromosomes. This chromosome can be inherited by
- (1) Only daughters
  - (2) Both sons and daughters
  - (3) Only grandchildren
  - (4) Only sons
78. AGGTATCGCAT is a sequence from the coding strand of a gene. What will be the corresponding sequence of the transcribed mRNA ?
- (1) AGGUAUCGCAU
  - (2) UCCAUAGCGUA
  - (3) ACCUAUGCGAU
  - (4) UGGTUTCGCAT
79. Match the items given in Column I with those in Column II and select the **correct** option given below :
- | Column I               | Column II                          |
|------------------------|------------------------------------|
| a. Proliferative Phase | i. Breakdown of endometrial lining |
| b. Secretory Phase     | ii. Follicular Phase               |
| c. Menstruation        | iii. Luteal Phase                  |
- |     | a   | b   | c  |
|-----|-----|-----|----|
| (1) | iii | ii  | i  |
| (2) | iii | i   | ii |
| (3) | ii  | iii | i  |
| (4) | i   | iii | ii |
80. According to Hugo de Vries, the mechanism of evolution is
- (1) Multiple step mutations
  - (2) Minor mutations
  - (3) Phenotypic variations
  - (4) Saltation
81. All of the following are part of an operon *except*
- (1) an operator
  - (2) a promoter
  - (3) an enhancer
  - (4) structural genes

77. ଗୋଟିଏ ସ୍ତ୍ରୀଲୋକ ର X ଗୁଣସୂତ୍ରରେ X-ଲିଙ୍କ୍ଡ ଅବସ୍ଥା ଅଛି । ଏହି ଗୁଣସୂତ୍ର କାହାଦ୍ୱାରା ଉତ୍ତରାଧିକୃତ ହୋଇପାରିବ ?
- (1) କେବଳ ଝିଅ ମାନେ
  - (2) ଉଭୟ ଝିଅ ଏବଂ ପୁଅ ମାନେ
  - (3) କେବଳ ନାତିନାତୁଣୀ ମାନେ
  - (4) କେବଳ ପୁଅ ମାନେ
78. ଗୋଟିଏ ଗୁଣପିଣ୍ଡର କୋଡିଙ୍ଗ ସ୍ତ୍ରୀ ର ଅନୁକ୍ରମ ହେଉଛି AGGTATCGCAT ଅନୁଲେଖିତ mRNA ର ଅନୁକ୍ରମ କ'ଣ ହେବ ?
- (1) AGGUAUCGCAU
  - (2) UCCAUAGCGUA
  - (3) ACCUAUGCGAU
  - (4) UGGTUTCGCAT
79. ପ୍ରଥମ I ସହିତ ପ୍ରଥମ II କୁ ସଠିକ୍ ସଂଯୋଗ କରି ପ୍ରଦତ୍ତ ବିକଳ୍ପ ମାନଙ୍କ ମଧ୍ୟରୁ ଠିକ୍ ଉତ୍ତରଟି ବାଛି :
- | ପ୍ରଥମ I                | ପ୍ରଥମ II                            |
|------------------------|-------------------------------------|
| a. ପ୍ରୋଲିଫେରେଟିଭ୍ ଫେଜ୍ | i. ଏଣ୍ଡୋମେଟ୍ରିଆଲ ଉତ୍ତରସ୍ତର ଭାଙ୍ଗିବା |
| b. ସିକ୍ରିଟୋରୀ ଫେଜ୍     | ii. ଫଲିକୁଲାର୍ ଫେଜ୍                  |
| c. ମେନ୍ସ୍ତ୍ରୁରେସନ୍     | iii. ଲୁଟିଆଲ୍ ଫେଜ୍                   |
- |     | a   | b   | c  |
|-----|-----|-----|----|
| (1) | iii | ii  | i  |
| (2) | iii | i   | ii |
| (3) | ii  | iii | i  |
| (4) | i   | iii | ii |
80. ହ୍ୟୁଗୋଡିଭାରିସ୍‌ଙ୍କ ମତରେ ବିବର୍ତ୍ତନ ପଦ୍ଧତି ହେଉଛି
- (1) ନବୋଦ୍ଭବନ ର ଅନେକ ପ୍ରକାର
  - (2) ଅଳ୍ପ ନବୋଦ୍ଭବନ
  - (3) ଲକ୍ଷଣପ୍ରଭୃତି ବିଭିନ୍ନତା
  - (4) ସଲ୍ଟେସନ୍
81. ନିମ୍ନରେ ଦିଆଯାଇଥିବା ମାନଙ୍କ ମଧ୍ୟରୁ କେଉଁଟି ଅପେରନ୍ ର ଏକ ଅଂଶ ନୁହେଁ ?
- (1) ଗୋଟିଏ ଅପେରନ୍
  - (2) ଗୋଟିଏ ପ୍ରୋମୋଟର
  - (3) ଗୋଟିଏ ଏନ୍‌ହାନ୍ସର୍
  - (4) ସ୍ତ୍ରୁକ୍ତରାଲ୍ ଜିନ୍

82. Which of the following events does **not** occur in rough endoplasmic reticulum ?

- (1) Protein folding
- (2) Phospholipid synthesis
- (3) Cleavage of signal peptide
- (4) Protein glycosylation

83. Which of these statements is **incorrect** ?

- (1) Enzymes of TCA cycle are present in mitochondrial matrix.
- (2) Oxidative phosphorylation takes place in outer mitochondrial membrane.
- (3) Glycolysis operates as long as it is supplied with NAD that can pick up hydrogen atoms.
- (4) Glycolysis occurs in cytosol.

84. Select the **incorrect** match :

- (1) Lampbrush – Diplotene bivalents chromosomes
- (2) Polytene – Oocytes of amphibians chromosomes
- (3) Submetacentric – L-shaped chromosomes chromosomes
- (4) Allosomes – Sex chromosomes

85. Which of the following terms describe human dentition ?

- (1) Thecodont, Diphyodont, Homodont
- (2) Pleurodont, Diphyodont, Heterodont
- (3) Pleurodont, Monophyodont, Homodont
- (4) Thecodont, Diphyodont, Heterodont

86. Nissl bodies are mainly composed of

- (1) Proteins and lipids
- (2) Free ribosomes and RER
- (3) Nucleic acids and SER
- (4) DNA and RNA

87. Many ribosomes may associate with a single mRNA to form multiple copies of a polypeptide simultaneously. Such strings of ribosomes are termed as

- (1) Polysome
- (2) Nucleosome
- (3) Plastidome
- (4) Polyhedral bodies

82. ନିମ୍ନରେ ଦିଆଯାଇଥିବା ଘଟଣାବଳୀ ମାନଙ୍କ ମଧ୍ୟରୁ କେଉଁଟି ଅମସୂଣ ଅନ୍ତର୍ଜୀବକୀୟ ଜାଲିକାରେ (RER) ଘଟେ ନାହିଁ ?

- (1) ପ୍ରୋଟିନ୍ ଫୋଲ୍ଡିଙ୍ଗ୍
- (2) ଫସ୍ଫୋଲିପିଡ୍ ସଂଶ୍ଳେଷଣ
- (3) ସିଗ୍ନାଲ୍ ପେପ୍ଟାଇଡ୍ କ୍ଲିଭେଜ୍
- (4) ପ୍ରୋଟିନ୍ ଗ୍ଲାଇକୋସିଲେସନ୍

83. ନିମ୍ନଲିଖିତ ଉକ୍ତି ମାନଙ୍କ ମଧ୍ୟରୁ କେଉଁଟି ଭୁଲ୍ ?

- (1) ମାଇଟୋକଣ୍ଡ୍ରିଆ ର ଆଧାର ମଧ୍ୟରେ TCA ଚକ୍ରର ବିପାତକ ମାନେ ଉପସ୍ଥିତ ଥାଆନ୍ତି ।
- (2) ମାଇଟୋକଣ୍ଡ୍ରିଆ ର ବାହ୍ୟ ଝିଲ୍ଲାରେ ଅକ୍ସିଡେଟିଭ୍ ଫସ୍ଫୋରିଲେସନ୍ ହୋଇଥାଏ ।
- (3) ଉଦ୍ଜାନ ପରମାଣୁକୁ ଧରି ରକ୍ଷାପାଉଥିବା NAD ଯେତେ ପର୍ଯ୍ୟନ୍ତ ଯୋଗାଇଦିଆଯାଉଥିବ, ସେତେପର୍ଯ୍ୟନ୍ତ ଗ୍ଲାଇକୋଲିସିସ୍ କ୍ରିୟାଶୀଳ ଥିବ ।
- (4) ସାଇଟୋସଲ୍ ମଧ୍ୟରେ ଗ୍ଲାଇକୋଲିସିସ୍ ସଂଘଟିତ ହୋଇଥାଏ ।

84. ଭୁଲ୍ ସଂଯୋଗ ଟିକୁ ବାଛି :

- (1) ଲାମ୍ପବ୍ରସ୍ ଗୁଣସୂତ୍ର – ଡିପ୍ଲୋଟେନ୍ ର ଯୁଗଳ ଗୁଣସୂତ୍ର
- (2) ପଲିଟେନ୍ ଗୁଣସୂତ୍ର – ଉଦ୍ଭିଦର ମାନଙ୍କ ଡିମାଣ୍ଡକୋଷ
- (3) ସବ୍ ମେଟାସେଣ୍ଟ୍ରିକ୍ – L-ଆକୃତିର ଗୁଣସୂତ୍ର ଗୁଣସୂତ୍ର
- (4) ଆଲୋଜୋମ୍ – ଲିଙ୍ଗୀୟ ଗୁଣସୂତ୍ର

85. ନିମ୍ନରେ ଦିଆଯାଇଥିବା କେଉଁ ପଦ ମନୁଷ୍ୟର ଦନ୍ତବିନ୍ୟାସ ର ବର୍ଣ୍ଣନା କରେ ?

- (1) ଥେକୋଡଣ୍ଟ, ଡାଇଫିଡୋଣ୍ଟ, ହୋମୋଡଣ୍ଟ
- (2) ପ୍ଲିୟୁରୋଡଣ୍ଟ, ଡାଇଫିଡୋଣ୍ଟ, ହେଟେରୋଡଣ୍ଟ
- (3) ପ୍ଲିୟୁରୋଡଣ୍ଟ, ମନୋଫିଡୋଣ୍ଟ, ହୋମୋଡଣ୍ଟ
- (4) ଥେକୋଡଣ୍ଟ, ଡାଇଫିଡୋଣ୍ଟ, ହେଟେରୋଡଣ୍ଟ

86. ନିସଲ୍ସ ବଡ଼ି ମୁଖ୍ୟତଃ କାହାଦ୍ୱାରା ଗଠିତ ହୋଇଥାଏ ?

- (1) ପୁଷ୍ଟିସାର ଏବଂ ସ୍ୱେଦସାର
- (2) ମୂଳ ରାଇବୋଜମ୍ ଏବଂ ଅମସୂଣ ଅନ୍ତର୍ଜୀବକୀୟ ଜାଲିକା (RER)
- (3) ନିମ୍ନକ୍ଲିକ୍ ଏସିଡ୍ ଏବଂ ମସୂଣ ଅନ୍ତର୍ଜୀବକୀୟ ଜାଲିକା (SER)
- (4) ଡି.ଏନ.ଏ. ଏବଂ ଆର୍.ଏନ୍.ଏ.

87. ଗୋଟିଏ ଏମ୍.ଆର୍.ଏନ୍.ଏ. (mRNA) ସହିତ ବହୁତ ଗୁଡ଼ିଏ ରାଇବୋଜମ୍ ସହଯୋଗ ହୋଇ, ପଲିପେପ୍ଟାଇଡ୍ ର ବହୁତ ପ୍ରତିଛବି ସମକ୍ଷଣରେ ତିଆରି କରନ୍ତି । ଏହି ପ୍ରକାର ରାଇବୋଜମ୍ ର ଦଉଡ଼ିକୁ (ଷ୍ଟ୍ରିଙ୍ଗ୍) କଣ କୁହାଯାଏ ?

- (1) ପଲିଜୋମ୍
- (2) ନିମ୍ନକ୍ଲିଓଜମ୍
- (3) ପ୍ଲାଷ୍ଟିଡୋମ୍
- (4) ପଲିହେଡ୍ରାଲ ବଡ଼ିକ୍

88. Match the items given in Column I with those in Column II and select the **correct** option given below :

Column I		Column II	
a. Tricuspid valve	i.	Between left atrium and left ventricle	
b. Bicuspid valve	ii.	Between right ventricle and pulmonary artery	
c. Semilunar valve	iii.	Between right atrium and right ventricle	

	a	b	c
(1)	iii	i	ii
(2)	ii	i	iii
(3)	i	ii	iii
(4)	i	iii	ii

89. Match the items given in Column I with those in Column II and select the **correct** option given below :

Column I		Column II	
a. Tidal volume	i.	2500 – 3000 mL	
b. Inspiratory Reserve volume	ii.	1100 – 1200 mL	
c. Expiratory Reserve volume	iii.	500 – 550 mL	
d. Residual volume	iv.	1000 – 1100 mL	

	a	b	c	d
(1)	iii	ii	i	iv
(2)	iv	iii	ii	i
(3)	i	iv	ii	iii
(4)	iii	i	iv	ii

90. Which of the following options correctly represents the lung conditions in asthma and emphysema, respectively ?

- (1) Inflammation of bronchioles; Decreased respiratory surface
- (2) Decreased respiratory surface; Inflammation of bronchioles
- (3) Increased respiratory surface; Inflammation of bronchioles
- (4) Increased number of bronchioles; Increased respiratory surface

88. ଗ୍ରନ୍ଥ I ସହିତ ଗ୍ରନ୍ଥ II କୁ ସଠିକ୍ ସଂଯୋଗ କରି ପ୍ରଦତ୍ତ ବିକଳ୍ପ ମାନଙ୍କ ମଧ୍ୟରୁ ଠିକ୍ ଉତ୍ତରଟି ବାଛି :

ଗ୍ରନ୍ଥ I		ଗ୍ରନ୍ଥ II	
a. ତ୍ରିନିପାଖୁଡ଼ା ବିଶିଷ୍ଟ କପାଟିକା	i.	ବାମ ଅଲିନ୍ଦ ଏବଂ ବାମ ନିଳୟ ମଧ୍ୟରେ	
b. ଦୁଇନିପାଖୁଡ଼ା ବିଶିଷ୍ଟ କପାଟିକା	ii.	ଦକ୍ଷିଣ ନିଳୟ ଏବଂ ପଲ୍ମୋନାରି ଧମନୀ ମଧ୍ୟରେ	
c. ଅର୍ଦ୍ଧଚନ୍ଦ୍ରାକୃତି କପାଟିକା	iii.	ଦକ୍ଷିଣ ଅଲିନ୍ଦ ଏବଂ ଦକ୍ଷିଣ ନିଳୟ ମଧ୍ୟରେ	

	a	b	c
(1)	iii	i	ii
(2)	ii	i	iii
(3)	i	ii	iii
(4)	i	iii	ii

89. ଗ୍ରନ୍ଥ I ସହିତ ଗ୍ରନ୍ଥ II କୁ ସଠିକ୍ ସଂଯୋଗ କରି ପ୍ରଦତ୍ତ ବିକଳ୍ପ ମାନଙ୍କ ମଧ୍ୟରୁ ଠିକ୍ ଉତ୍ତରଟି ବାଛି :

ଗ୍ରନ୍ଥ I		ଗ୍ରନ୍ଥ II	
a. ଟାଇଡାଲ୍ ଭଲ୍ୟୁମ୍	i.	2500 – 3000 mL	
b. ଇନ୍ସପିରେଟୋରୀ ରିଜର୍ଭ୍ ଭଲ୍ୟୁମ୍	ii.	1100 – 1200 mL	
c. ଏକ୍ସପିରେଟୋରୀ ରିଜର୍ଭ୍ ଭଲ୍ୟୁମ୍	iii.	500 – 550 mL	
d. ରେସିଡୁଆଲ୍ ଭଲ୍ୟୁମ୍	iv.	1000 – 1100 mL	

	a	b	c	d
(1)	iii	ii	i	iv
(2)	iv	iii	ii	i
(3)	i	iv	ii	iii
(4)	iii	i	iv	ii

90. ନିମ୍ନୋକ୍ତ କେଉଁଟି ଯଥାକ୍ରମେ ଆଲ୍ଫା ଏବଂ ଇମ୍ଫାଇସେମାରେ ଫୁସ୍ଫୁସର ଅବସ୍ଥାକୁ ଠିକ୍ ଭାବରେ ବୁଝାଏ ?

- (1) ଶ୍ଵାସନଳୀକାର ଫୁଲା; ଶ୍ଵାସକ୍ରିୟା ସ୍ଥାନ ର ହ୍ରାସ
- (2) ଶ୍ଵାସକ୍ରିୟା ସ୍ଥାନ ର ହ୍ରାସ; ଶ୍ଵାସନଳୀକାର ଫୁଲା
- (3) ଶ୍ଵାସକ୍ରିୟା ସ୍ଥାନ ର ବୃଦ୍ଧି; ଶ୍ଵାସନଳୀକାର ଫୁଲା
- (4) ଶ୍ଵାସନଳୀକା ସଂଖ୍ୟାରେ ବୃଦ୍ଧି; ଶ୍ଵାସକ୍ରିୟା ସ୍ଥାନ ର ବୃଦ୍ଧି

91. The stage during which separation of the paired homologous chromosomes begins is
- (1) Pachytene
  - (2) Zygotene
  - (3) Diakinesis
  - (4) Diplotene
92. Which of the following is true for nucleolus ?
- (1) Larger nucleoli are present in dividing cells.
  - (2) It is a site for active ribosomal RNA synthesis.
  - (3) It takes part in spindle formation.
  - (4) It is a membrane-bound structure.
93. Stomatal movement is **not** affected by
- (1) Temperature
  - (2) CO<sub>2</sub> concentration
  - (3) O<sub>2</sub> concentration
  - (4) Light
94. Which among the following is **not** a prokaryote ?
- (1) *Saccharomyces*
  - (2) *Oscillatoria*
  - (3) *Nostoc*
  - (4) *Mycobacterium*
95. Which of the following is **not** a product of light reaction of photosynthesis ?
- (1) ATP
  - (2) Oxygen
  - (3) NADPH
  - (4) NADH
96. Stomata in grass leaf are
- (1) Dumb-bell shaped
  - (2) Barrel shaped
  - (3) Rectangular
  - (4) Kidney shaped
97. The Golgi complex participates in
- (1) Fatty acid breakdown
  - (2) Activation of amino acid
  - (3) Respiration in bacteria
  - (4) Formation of secretory vesicles
98. The two functional groups characteristic of sugars are
- (1) hydroxyl and methyl
  - (2) carbonyl and hydroxyl
  - (3) carbonyl and phosphate
  - (4) carbonyl and methyl

91. ନିମ୍ନଲିଖିତ କେଉଁ ଅବସ୍ଥାରେ ଦୁଇଟି ସଦୃଶ ଗୁଣସୂତ୍ର ଗୁଡ଼ିକ ପୃଥକ ହେବାକୁ ଆରମ୍ଭ କରନ୍ତି ?
- (1) ପାଇକିଟିନ୍
  - (2) ଜାଇଗୋଟିନ୍
  - (3) ଡାଇଆକାଇନେସିସ୍
  - (4) ଡିପ୍ଲୋଟିନ୍
92. ନିମ୍ନସ୍ଥି ପାଇଁ ନିମ୍ନଲିଖିତ ମଧ୍ୟରୁ କେଉଁଟି ସତ୍ୟ ଅଟେ ?
- (1) ବିଭାଜିତ କୋଷରେ ବୃହତ୍ ନିଉକ୍ଲିଓଲାଲ ଗୁଡ଼ିକ ଉପସ୍ଥିତ ଥାଆନ୍ତି ।
  - (2) ଏହା ରାବୋଜୋମାଲ RNA ପୁଷ୍ଟିସାର ସଂଶ୍ଳେଷଣ ପାଇଁ ଏକ କାର୍ଯ୍ୟକାରୀ ପାର୍ଶ୍ଵ ।
  - (3) ଡର୍ଲୁ ତିଆରି କରିବାରେ ଅଂଶ ଗ୍ରହଣ କରେ ।
  - (4) ଏହା ଗୋଟିଏ ଝିଲ୍ଲୀରହିତ ଗଠନ ।
93. ନିମ୍ନୋକ୍ତ ମଧ୍ୟରୁ କାହାଦ୍ଵାରା ସ୍ତୋମର ଚଳନ ପ୍ରଭାବିତ ହୁଏ ନାହିଁ ?
- (1) ତାପମାତ୍ରା
  - (2) CO<sub>2</sub> ଗାଢ଼ତା
  - (3) O<sub>2</sub> ଗାଢ଼ତା
  - (4) ଆଲୋକ
94. ନିମ୍ନଲିଖିତ ମଧ୍ୟରୁ କେଉଁଟି ପ୍ରାକ୍‌ନ୍ୟଷ୍ଟିୟ ହୁଏ ?
- (1) ସାକାରୋମାଇସେସ୍
  - (2) ଓସିଲାଟୋରିଆ
  - (3) ନଷ୍ଟକ୍
  - (4) ମାଇକୋବ୍ୟାକ୍ଟେରିଅମ୍
95. ନିମ୍ନଲିଖିତ ମଧ୍ୟରୁ କେଉଁଟି ଆଲୋକ ସଂଶ୍ଳେଷଣର ଆଲୋକ ପ୍ରକ୍ରିୟାର ଏକ ଉପାଦାନ ହୁଏ ?
- (1) ATP
  - (2) Oxygen
  - (3) NADPH
  - (4) NADH
96. ଘାସ ପତ୍ର ରେ କେଉଁ ପ୍ରକାର ସ୍ତୋମ ଦେଖାଯାଏ ?
- (1) ଡମ୍ବରୁ ଆକୃତିର
  - (2) ନଳୀ ଆକୃତିର
  - (3) ଆୟତାକାର
  - (4) ବୃକକ୍ ଆକୃତିର
97. ଗଲ୍‌ଜି କମ୍ପ୍ଲେକ୍ସ ନିମ୍ନୋକ୍ତ କେଉଁଥିରେ ଭାଗ ନିଏ ?
- (1) ଫ୍ୟାଟି ଏସିଡ୍ ବିଖଣ୍ଡିତ ହେବାରେ
  - (2) ଏମିନୋ ଏସିଡ୍ କୁ କାର୍ଯ୍ୟକାରୀ କରିବାରେ
  - (3) ବାଜାଣ୍ଡର ଶ୍ଵସନ ପ୍ରକ୍ରିୟା ରେ
  - (4) ଗୁସ୍ତ କ୍ଷୁଦ୍ରକୋଷର ଉତ୍ପତ୍ତି ହେବାରେ
98. ଶର୍କରା ଗଠନରେ କେଉଁ ଦୁଇଟି କାର୍ଯ୍ୟକାରୀ ଦଳ ଥାଆନ୍ତି ?
- (1) ହାଇଡ୍ରୋକ୍ସିଲ୍ ଏବଂ ମିଥାଇଲ୍
  - (2) କାର୍ବୋନିଲ୍ ଏବଂ ହାଇଡ୍ରୋକ୍ସିଲ୍
  - (3) କାର୍ବୋନିଲ୍ ଏବଂ ଫସ୍ଫେଟ୍
  - (4) କାର୍ବୋନିଲ୍ ଏବଂ ମିଥାଇଲ୍

99. A 'new' variety of rice was patented by a foreign company, though such varieties have been present in India for a long time. This is related to

- (1) Co-667
- (2) Basmati
- (3) Lerma Rojo
- (4) Sharbati Sonora

100. Select the **correct** match :

- |                                   |   |                |
|-----------------------------------|---|----------------|
| (1) Ribozyme                      | – | Nucleic acid   |
| (2) G. Mendel                     | – | Transformation |
| (3) T.H. Morgan                   | – | Transduction   |
| (4) $F_2 \times$ Recessive parent | – | Dihybrid cross |

101. Which of the following is commonly used as a vector for introducing a DNA fragment in human lymphocytes ?

- (1) Retrovirus
- (2) pBR 322
- (3)  $\lambda$  phage
- (4) Ti plasmid

102. In India, the organisation responsible for assessing the safety of introducing genetically modified organisms for public use is

- (1) Indian Council of Medical Research (ICMR)
- (2) Genetic Engineering Appraisal Committee (GEAC)
- (3) Research Committee on Genetic Manipulation (RCGM)
- (4) Council for Scientific and Industrial Research (CSIR)

103. The correct order of steps in Polymerase Chain Reaction (PCR) is

- (1) Extension, Denaturation, Annealing
- (2) Denaturation, Annealing, Extension
- (3) Denaturation, Extension, Annealing
- (4) Annealing, Extension, Denaturation

104. Use of bioresources by multinational companies and organisations without authorisation from the concerned country and its people is called

- (1) Bio-infringement
- (2) Bioexploitation
- (3) Biodegradation
- (4) Biopiracy

99. ଏକ 'ନୂଆ' ପ୍ରକାରର ସ୍ୱର୍ଣ୍ଣଧାନ ଗୋଟିଏ ବିଦେଶୀ ବ୍ୟବସାୟିକ ସଂଘ ଦ୍ୱାରା ଉଦ୍ଭାବନ ହୋଇଥିଲା, ଯଦି ବା ସେହି ପ୍ରକାରର ଧାନ ବହୁ ସମୟ ପର୍ଯ୍ୟନ୍ତ ଭାରତରେ ରହିଥିଲା । ଉକ୍ତ ଉଦ୍ଭିଟି କାହା ସହିତ ସମ୍ପର୍କିତ ?

- (1) Co-667
- (2) ବାସୁମତି
- (3) ଲରମା ରୋଜୋ
- (4) ସରବତୀ ସୋନୋରା

100. ସଠିକ୍ ସଂଯୋଗୀକରଣକୁ ବାଛି :

- |                               |   |                |
|-------------------------------|---|----------------|
| (1) ରାଇବୋଜାଇମ୍                | – | ନିଉକ୍ଲିକ୍ ଅମ୍ଳ |
| (2) ଜି. ମେଣ୍ଡେଲ୍              | – | ପ୍ରଭୂପଣ        |
| (3) ଟି.ଏଚ୍. ମୋରଗାନ୍           | – | ଡ୍ରାନ୍ସଡକ୍ସନ୍  |
| (4) $F_2 \times$ ଅପ୍ରଭାବୀ ଜନକ | – | ଦ୍ୱି ସଂକରୀକରଣ  |

101. ମାନବ ଲିମ୍ଫୋସାଇଟ୍ ରେ ଡି.ଏନ.ଏ. ଖଣ୍ଡବିଶେଷର ପ୍ରବେଶ ପାଇଁ ସାଧାରଣତଃ ନିମ୍ନୋକ୍ତ କେଉଁ କାରକଟି ବ୍ୟବହାର କରାଯାଏ

- (1) ରେଟ୍ରୋଭାଇରସ୍
- (2) pBR 322
- (3)  $\lambda$  ଫେଜ୍
- (4) Ti ପ୍ଲାସମିଡ୍

102. ଜନସାଧାରଣଙ୍କର ବ୍ୟବହାର ପାଇଁ ଭାରତର କେଉଁ ସଂସ୍ଥା ଯୋଗ୍ୟ ବିବେଚିତ ହୋଇଛି ଯିଏ ଜିନୀୟ ପରିବର୍ତ୍ତିତ ଜୀନ ଗୁଡ଼ିକଙ୍କର ପ୍ରବେଶକୁ ସୁରକ୍ଷା ଦିଏ ?

- (1) ଭାରତର ଭେଷଜ ଗବେଷଣାର ଉପଦେଷ୍ଟା (ICMR)
- (2) ଆନୁବଂଶିକ ଅଭିଯନ୍ତ୍ରିକା ର ମୂଲ୍ୟନିରୂପଣ କରିବା ସମିତି (GEAC)
- (3) ଆନୁବଂଶିକ କୌଶଳ ଉପରେ ଗବେଷଣା ସମିତି (RCGM)
- (4) ବୈଜ୍ଞାନିକ ଓ ଶିଳ୍ପାତ୍ମକ ଗବେଷଣା ପାଇଁ ଉପଦେଷ୍ଟା (CSIR)

103. ପଲିମରେଜ୍ ଚେନ୍ ରିଆକ୍ସନ୍ (PCR) ର ସଠିକ୍ ଶୃଙ୍ଖଳିତ ପଦକ୍ଷେପଟି ହେଉଛି

- (1) ଏକ୍ସଟେନ୍ସନ୍, ଡିନାଚୁରେସନ୍, ଆନେଲିଂ
- (2) ଡିନାଚୁରେସନ୍, ଆନେଲିଂ, ଏକ୍ସଟେନ୍ସନ୍
- (3) ଡିନାଚୁରେସନ୍, ଏକ୍ସଟେନ୍ସନ୍, ଆନେଲିଂ
- (4) ଆନେଲିଂ, ଏକ୍ସଟେନ୍ସନ୍, ଡିନାଚୁରେସନ୍

104. ବହୁରାଷ୍ଟ୍ରୀୟ କମ୍ପାନି ଗୁଡ଼ିକ ଏବଂ ସଂଗଠନ ଗୁଡ଼ିକ ସେମାନଙ୍କ ଦେଶର ଏବଂ ସେମାନଙ୍କର ଜନସାଧାରଣଙ୍କର ପ୍ରାଧିକାର ବିନା ବ୍ୟବହାର କରୁଥିବା ଜୈବ ସମ୍ପଦକୁ କ'ଣ କୁହାଯାଏ ?

- (1) ବାଇଓଫ୍ରିନଜ୍ ମେଣ୍ଟ୍
- (2) ବାଇଓଏକ୍ସପ୍ଲୋଇଟେସନ୍
- (3) ବାଇଓଡିଗ୍ରେଡେସନ୍
- (4) ବାଇଓପାଇରେସି



105. Winged pollen grains are present in

- (1) Mustard
- (2) *Pinus*
- (3) Mango
- (4) *Cycas*

106. After karyogamy followed by meiosis, spores are produced exogenously in

- (1) *Neurospora*
- (2) *Saccharomyces*
- (3) *Agaricus*
- (4) *Alternaria*

107. Which one is **wrongly** matched ?

- (1) Uniflagellate gametes – *Polysiphonia*
- (2) Unicellular organism – *Chlorella*
- (3) Gemma cups – *Marchantia*
- (4) Biflagellate zoospores – Brown algae

108. Match the items given in Column I with those in Column II and select the **correct** option given below :

Column I

Column II

- |              |   |
|--------------|---|
| a. Herbarium | i. It is a place having a collection of preserved plants and animals.   |
| b. Key       | ii. A list that enumerates methodically all the species found in an area with brief description aiding identification.  |
| c. Museum    | iii. Is a place where dried and pressed plant specimens mounted on sheets are kept.                                     |
| d. Catalogue | iv. A booklet containing a list of characters and their alternates which are helpful in identification of various taxa. |

a      b      c      d

- (1) i      iv      iii      ii
- (2) iii    iv      i      ii
- (3) ii    iv      iii    i
- (4) iii    ii      i      iv

105. ନିମ୍ନଲିଖିତ ମଧ୍ୟରୁ କେଉଁଟିରେ ପକ୍ଷଯୁକ୍ତ ପରାଗରେଣୁ ଉପସ୍ଥିତ ଥାଏ ?

- (1) ସୋରିଷ
- (2) *ପାଇନସ୍*
- (3) ଆମ୍ବ
- (4) *ସାଇକାସ*

106. ନିମ୍ନଲିଖିତ ମଧ୍ୟରୁ କେନ୍ଦ୍ରିକ ସଂଲୟନ ଏକ ଅର୍ଦ୍ଧସୁତ୍ରୀ ବିଭାଜନ ରେଣୁମାନେ କେଉଁଥିରେ ଉତ୍ପନ୍ନ ହୁଅନ୍ତି ?

- (1) *ନିଉରୋସ୍ପୋରା*
- (2) *ସାକାରୋମାଇସେସ୍*
- (3) *ଆଗାରିକସ୍*
- (4) *ଅଲ୍ଟେରନାରିଆ*

107. ନିମ୍ନଲିଖିତ ମଧ୍ୟରୁ କେଉଁଟି **ଭୁଲ୍** ରୂପେ ସଂଯୋଗ ହୋଇଛି ?

- |                           |   |                    |
|---------------------------|---|--------------------|
| (1) ୟୁନିଫ୍ଲାଗେଲେଟ୍ ଯୁଗ୍ମଦ | – | <i>ପଲିସାଇଫୋନିଆ</i> |
| (2) ଏକକୋଷୀୟ ଜୀବ           | – | <i>କ୍ଲୋରେଲା</i>    |
| (3) ଜେମା କପ୍              | – | <i>ମାର୍ଚାନ୍ଟିଆ</i> |
| (4) ବାଇଫ୍ଲାଗେଲେଟ୍ ଚଳରେଣୁ  | – | ବାଦାମୀ ଶୈବାଳ       |

108. ଗ୍ରହ I ସହିତ ଗ୍ରହ II କୁ ସଠିକ୍ ସଂଯୋଗ କରି ପ୍ରଦତ୍ତ ବିକଳ୍ପ ମାନଙ୍କ ମଧ୍ୟରୁ ଠିକ୍ ଉତ୍ତରଟି ବାଛି :

ଗ୍ରହ I

ଗ୍ରହ II

- |               |   |
|---------------|---|
| a. ହରବାର୍ଟିୟମ | i. ଏହା ଗୋଟିଏ ସ୍ଥାନ ଯେଉଁଥିରେ ପାଚନ ମୂଳ ଉଦ୍ଭିଦଗୁଡ଼ିକ ଓ ପଶୁଗୁଡ଼ିକ ସଂଗୃହୀତ ହୋଇ ଥାଆନ୍ତି ।                                 |
| b. କି         | ii. ଆବଶ୍ୟକ ପଦ୍ଧତି ଅନୁଯାୟୀ ଗୋଟିଏ ନିଦ୍ଦିଷ୍ଟ ସ୍ଥାନରେ ଥିବା ସମସ୍ତ ଜାତିମାନଙ୍କର ବର୍ଣ୍ଣନା ଓ ଚିତ୍ରଣ କରାଯାଇଥିବା ତାଲିକା ।      |
| c. ସଂଗ୍ରାହଲୟ  | iii. ଯେଉଁଥିରେ ଶୁଖିଲା ଓ ଜୀବଯୁକ୍ତ ଉଦ୍ଭିଦ ଜାତିକୁ କାଗଜ ଭିତରେ ଚପାଇ ରଖାଯାଇଥାଏ ।   |
| d. କ୍ୟାଟାଲଗ   | iv. ଏକ ଖୁବ୍ ସହଜ ଯେଉଁଥିରେ ଗୁଣାବଳୀ ଓ ସେମାନଙ୍କର ଏକାନ୍ତର ପରିବର୍ତ୍ତନର ଯାହାକି ବିଭିନ୍ନ ଜୀବ ବର୍ଗର ଚିତ୍ରଣ ପାଇଁ ସାହାଯ୍ୟ କରେ । |

a      b      c      d

- (1) i      iv      iii      ii
- (2) iii    iv      i      ii
- (3) ii    iv      iii    i
- (4) iii    ii      i      iv

109. What is the role of  $\text{NAD}^+$  in cellular respiration ?
- (1) It functions as an enzyme.
  - (2) It is the final electron acceptor for anaerobic respiration.
  - (3) It is a nucleotide source for ATP synthesis.
  - (4) It functions as an electron carrier.
110. Oxygen is **not** produced during photosynthesis by
- (1) Green sulphur bacteria
  - (2) *Chara*
  - (3) *Cycas*
  - (4) *Nostoc*
111. Double fertilization is
- (1) Fusion of two male gametes of a pollen tube with two different eggs
  - (2) Syngamy and triple fusion
  - (3) Fusion of two male gametes with one egg
  - (4) Fusion of one male gamete with two polar nuclei
112. In which of the following forms is iron absorbed by plants ?
- (1) Ferric
  - (2) Both ferric and ferrous
  - (3) Free element
  - (4) Ferrous
113. Which of the following elements is responsible for maintaining turgor in cells ?
- (1) Magnesium
  - (2) Calcium
  - (3) Potassium
  - (4) Sodium
114. Which one of the following plants shows a very close relationship with a species of moth, where none of the two can complete its life cycle without the other ?
- (1) *Hydrilla*
  - (2) *Viola*
  - (3) *Banana*
  - (4) *Yucca*
115. Pollen grains can be stored for several years in liquid nitrogen having a temperature of
- (1)  $-120^\circ\text{C}$
  - (2)  $-160^\circ\text{C}$
  - (3)  $-196^\circ\text{C}$
  - (4)  $-80^\circ\text{C}$

109. କୋଷୀୟ ଶ୍ୱସନରେ  $\text{NAD}^+$  ର ଭୂମିକା କ'ଣ ?
- (1) ଏହା ବିପାତକ ପରି କାମ କରେ ।
  - (2) ବାୟୁ ଅପଜୀବୀ ଶ୍ୱସନ ପାଇଁ ଏହା ଏକ ଅନ୍ତିମ ଇଲେକ୍ଟ୍ରନ୍ ଗ୍ରହଣକାରୀ ।
  - (3) ATP ସଂଶ୍ଳେଷଣ ପାଇଁ ଏହା ଏକ ନିଉକ୍ଲିଓଟାଇଡର ଉତ୍ସ ।
  - (4) ଏହା ଏକ ଇଲେକ୍ଟ୍ରନ୍ ବାହକ ଭଳି କାର୍ଯ୍ୟ କରେ ।
110. ଆଲୋକସଂଶ୍ଳେଷଣ ସମୟରେ କେଉଁଠିରେ ଅମ୍ଳଜାନ ନିର୍ଗତ ହୁଏ ନାହିଁ ?
- (1) ସବୁଜ ସଲ୍‌ଫର ବ୍ୟାକ୍ଟେରିଆ
  - (2) *କାରା*
  - (3) *ସାଇକସ୍*
  - (4) *ନଷ୍ଟକ୍*
111. ଦ୍ୱିସମାୟନ କ'ଣ ?
- (1) ପରାଗନକ୍ରମରେ ଥିବା ଦୁଇଟି ପୁଂସୁଗ୍ମକ ସହିତ ଦୁଇଟି ପୃଥକ୍ ଡିମ୍ବର ସମେଲନ
  - (2) ସିନ୍‌ଗାମି ଏବଂ ତ୍ରିସମେଲନ
  - (3) ଦୁଇଟି ପୁଂସୁଗ୍ମକ ସହିତ ଗୋଟିଏ ଜିମ୍ବର ସମେଲନ
  - (4) ଗୋଟିଏ ପୁଂସୁଗ୍ମକ ସହିତ ଦୁଇଟି ମେଗ୍‌ସ୍ପୋଷ୍ଟର ସମେଲନ
112. ଉଦ୍ଭିଦଦ୍ୱାରା ଆଇରନ୍ ନିମ୍ନଲିଖିତ କେଉଁ ରୂପରେ ଶୋଷିତ ହୁଏ ?
- (1) ଫେରିକ୍
  - (2) ଉଭୟ ଫେରିକ୍ ଏବଂ ଫେରସ୍
  - (3) ମୁକ୍ତ ଉପାଦାନ
  - (4) ଫେରସ୍
113. ନିମ୍ନଲିଖିତ ମଧ୍ୟରୁ କେଉଁଗୋଟିକ ଉପାଦାନ କୋଷର ବୃଦ୍ଧିକୁ ପ୍ରତିପାଳନ କରିବା ପାଇଁ ଉଦ୍ଦିଷ୍ଟ ?
- (1) ମ୍ୟାଗ୍‌ନେସିୟମ୍
  - (2) କ୍ୟାଲସିୟମ୍
  - (3) ପୋଟାସିୟମ୍
  - (4) ସୋଡିୟମ୍
114. ମଧୁ ର ଜାତି ସହିତ ନିବିଡ଼ ସମ୍ପର୍କ ଥିବା କେଉଁ ଉଦ୍ଭିଦ ଥାଏ, ଯେତେବେଳେ ତାଙ୍କ ଦୁଇଜଣଙ୍କ ମଧ୍ୟରୁ କେହି ଜଣେ ଅନ୍ୟଜଣଙ୍କ ବିନା ସେମାନଙ୍କର ଜୀବନ ଚକ୍ର ପୂର୍ଣ୍ଣ କରି ପାରନ୍ତି ନାହିଁ ?
- (1) *ହାଇଡ୍ରିଲା*
  - (2) *ଭିଓଲା*
  - (3) *କଦଳୀ*
  - (4) *ୟୁକା*
115. ନିମ୍ନଲିଖିତ ମଧ୍ୟରୁ କେଉଁ ତାପମାତ୍ରା ରେ ପରାଗରେଣୁ ଗୁଡ଼ିକ ବହୁ ବର୍ଷ ପାଇଁ ତରଳ ଯବସ୍ତାରଜ୍ଞାନରେ ସଂରକ୍ଷିତ ହୋଇ ରହି ପାରନ୍ତି ?
- (1)  $-120^\circ\text{C}$
  - (2)  $-160^\circ\text{C}$
  - (3)  $-196^\circ\text{C}$
  - (4)  $-80^\circ\text{C}$

116. Niche is

- (1) all the biological factors in the organism's environment
- (2) the functional role played by the organism where it lives
- (3) the range of temperature that the organism needs to live
- (4) the physical space where an organism lives

117. Which of the following is a secondary pollutant ?

- (1) CO
- (2) O<sub>3</sub>
- (3) SO<sub>2</sub>
- (4) CO<sub>2</sub>

118. World Ozone Day is celebrated on

- (1) 5<sup>th</sup> June
- (2) 22<sup>nd</sup> April
- (3) 16<sup>th</sup> September
- (4) 21<sup>st</sup> April

119. In stratosphere, which of the following elements acts as a catalyst in degradation of ozone and release of molecular oxygen ?

- (1) Carbon
- (2) Oxygen
- (3) Fe
- (4) Cl

120. What type of ecological pyramid would be obtained with the following data ?

Secondary consumer : 120 g

Primary consumer : 60 g

Primary producer : 10 g

- (1) Inverted pyramid of biomass
- (2) Upright pyramid of biomass
- (3) Upright pyramid of numbers
- (4) Pyramid of energy

121. Natality refers to

- (1) Death rate
- (2) Number of individuals entering a habitat
- (3) Number of individuals leaving the habitat
- (4) Birth rate

116. ନିର୍ (Niche) ହେଉଛି

- (1) ଜୀବମାନଙ୍କ ପରିବେଶରେ ଥିବା ସମସ୍ତ ଜୈବିକ ଓ ଭୌତିକ କାରକ ଗୁଡ଼ିକ
- (2) ଜୀବଟି ଯେଉଁଠାରେ ବଞ୍ଚେ ସେଠାରେ ତାର କ୍ରିୟାତ୍ମକ ଭୂମିକା ନିର୍ବାହ କରେ
- (3) ଜୀବଟି ବଞ୍ଚିବାକୁ ଏକ ତାପମାତ୍ରାର ପରିସୀମା ଭିତରେ ରହେ
- (4) ଜୀବଟି ଏକ ପରିସୀମାଭିତରେ ବଞ୍ଚିବା ପାଇଁ ଯେଉଁ ପ୍ରକାର ଭୌତିକ ଓ ଜୈବିକ ଅବସ୍ଥାର ବ୍ୟବହାର କରେ

117. ନିମ୍ନଲିଖିତ ମଧ୍ୟରୁ କେଉଁଟି ଦ୍ୱିତୀୟକ ପ୍ରଦୂଷଣକାରୀ ?

- (1) CO
- (2) O<sub>3</sub>
- (3) SO<sub>2</sub>
- (4) CO<sub>2</sub>

118. କେଉଁଦିନ ପୃଥିବୀର ଓଜୋନ ଦିନ ପାଳନ କରାଯାଏ ?

- (1) 5 ଜୁନ୍
- (2) 22 ଏପ୍ରିଲ୍
- (3) 16 ସେପ୍ଟେମ୍ବର
- (4) 21 ଏପ୍ରିଲ୍

119. ସ୍ତ୍ରାଟୋସ୍ଫିଅରରେ ନିମ୍ନଲିଖିତ ମଧ୍ୟରୁ କେଉଁଟି ଓଜୋନ୍‌ର ଅଧଃପତନ ଓ ଆଣବିକ ଅମ୍ଳଜାନ କୁ ମୁକ୍ତ କରିବାରେ ଉତ୍ପ୍ରେରକ ଭଳି କାର୍ଯ୍ୟ କରେ

- (1) କାରବନ୍
- (2) ଅମ୍ଳଜାନ
- (3) Fe
- (4) Cl

120. ଉକ୍ତ ତଥ୍ୟ ଅନୁସାରେ କେଉଁ ପ୍ରକାରର ଇକୋଲୋଜିକାଲ୍ ପିରାମିଡ୍ ସୃଷ୍ଟି ହୋଇ ପାରିବ ?

ଦ୍ୱିତୀୟକ ଭକ୍ଷକ : 120 g

ପ୍ରାଥମିକ ଭକ୍ଷକ : 60 g

ପ୍ରାଥମିକ ଉତ୍ପାଦକ : 10 g

- (1) ଓଲଟା ଜୈବିକ ବସ୍ତୁ ପିରାମିଡ୍
- (2) ଭୂଲମ୍ବ ଜୈବିକ ବସ୍ତୁ ପିରାମିଡ୍
- (3) ଭୂଲମ୍ବ ସଂଖ୍ୟା ପିରାମିଡ୍
- (4) ଶକ୍ତି ପିରାମିଡ୍

121. ନିମ୍ନଲିଖିତ କେଉଁଟିକୁ ଜନ୍ମହାର ସୂଚାଏ ?

- (1) ମୃତ୍ୟୁ ମାତ୍ରା
- (2) ଗୋଟିଏ ବାସରେ ପ୍ରବେଶ କରୁଥିବା ବ୍ୟକ୍ତି ବିଶେଷକର ସଂଖ୍ୟା
- (3) ବାସ ପରିତ୍ୟାଗ କରୁଥିବା ବ୍ୟକ୍ତିବିଶେଷକର ସଂଖ୍ୟା
- (4) ଜନ୍ମ ମାତ୍ରା

122. Which of the following has proved helpful in preserving pollen as fossils ?  
 (1) Pollenkitt  
 (2) Sporopollenin  
 (3) Oil content  
 (4) Cellulosic intine
123. Which of the following pairs is **wrongly** matched ?  
 (1) Starch synthesis in pea : Multiple alleles  
 (2) T.H. Morgan : Linkage  
 (3) XO type sex : Grasshopper Determination  
 (4) ABO blood grouping : Co-dominance
124. Select the **correct** match :  
 (1) Alec Jeffreys – *Streptococcus pneumoniae*  
 (2) Francois Jacob and Jacques Monod – *Lac operon*  
 (3) Matthew Meselson and F. Stahl – *Pisum sativum*  
 (4) Alfred Hershey and Martha Chase – TMV
125. Which of the following flowers only once in its life-time ?  
 (1) Bamboo species  
 (2) Papaya  
 (3) Mango  
 (4) Jackfruit
126. Select the **correct** statement :  
 (1) Franklin Stahl coined the term “linkage”.  
 (2) Transduction was discovered by S. Altman.  
 (3) Spliceosomes take part in translation.  
 (4) Punnett square was developed by a British scientist.
127. Offsets are produced by  
 (1) Meiotic divisions  
 (2) Parthenogenesis  
 (3) Parthenocarpy  
 (4) Mitotic divisions
128. The experimental proof for semiconservative replication of DNA was first shown in a  
 (1) Fungus  
 (2) Virus  
 (3) Plant  
 (4) Bacterium

122. ନିମ୍ନଲିଖିତ ମଧ୍ୟରୁ କେଉଁଟି ପରାଗକୁ ଜୀବାଶ୍ମ ରୂପରେ ସଂରକ୍ଷିତ କରି ରଖିବାରେ ସାହାଯ୍ୟକାରୀ ହୁଏ ?  
 (1) ପୋଲେନକିଟ୍  
 (2) ସ୍ପୋରୋପଲେନିନ୍  
 (3) ଅଏଲ୍ କଣ୍ଟେଣ୍ଟ  
 (4) ସେଲୁଲୋଜିକ୍ ଇନ୍ଟାଇନ୍
123. ନିମ୍ନଲିଖିତ ମଧ୍ୟରୁ କେଉଁ ଯୋଡ଼ାଟି **ଭୁଲ** ଯୋଡ଼ାଯାଇଛି ?  
 (1) ମଟରରେ ମଣ୍ଡକ ସଂଶ୍ଳେଷଣ : ବହୁ ଯୁଗ୍ମ ବିକଳ୍ପୀ  
 (2) ଟି.ଏଚ୍. ମର୍ଗାନ : ଯୋଗସୂତ୍ରିକା  
 (3) XO ଟାଇପ୍ ଲିଙ୍ଗ ନିରୂପଣ : ଝିଣ୍ଡି  
 (4) ABO ରକ୍ତ ବର୍ଗ : ସହ ପ୍ରଭାବୀ
124. **ସଠିକ୍** ସଂଯୋଗୀକରଣକୁ ବାଛି :  
 (1) ଏଲେକ୍ ମେଫ୍ଟିସ୍ – ଷ୍ଟ୍ରେପ୍ଟୋକୋକସ୍ ନିମୋନିଆ  
 (2) ଫ୍ରାଙ୍କୋଜାକ୍ ଡିଆକୋକ୍ ଏବଂ ଜ୍ୟାକ୍ ମୋନୋଡ୍ – ଲ୍ୟାକ୍ ଅପେରନ୍  
 (3) ମାଥ୍ୟୁ ମେସେଲନ୍ ଏବଂ ଏଫ୍. ଷ୍ଟାଲ୍ – ପିସମ୍ ସାଟିଭମ୍ ସାଟିଭମ୍  
 (4) ଆଲ୍ଫ୍ରେଡ୍ ହର୍ସେ ଏବଂ ମାର୍ଥା ଚେସ୍ – ଟି.ଏମ୍.ଭି. ମାଆ ଚେସ୍
125. ନିମ୍ନଲିଖିତ ମଧ୍ୟରୁ କେଉଁଥିରେ ଜୀବନକାଳ ଭିତରେ ଥରେ ମାତ୍ର ଫୁଲଗୁଡ଼ିକ ଆସନ୍ତି  
 (1) ବାଉଁଶ ଜାତି  
 (2) ଅମୃତଭଣ୍ଡା  
 (3) ଆମ୍ବ  
 (4) ପଣସ
126. **ସଠିକ୍** ଉକ୍ତିଟିକୁ ବାଛି :  
 (1) ଫ୍ରାଙ୍କଲିନ୍ ଷ୍ଟାଲ୍ “ଗୁଡ଼ାସୂତ୍ରିକା” ଶବ୍ଦ ଉଦ୍ଭାବନ କରିଥିଲେ ।  
 (2) ଏସ୍. ଅଲ୍ଟମାନଙ୍କ ଦ୍ଵାରା ଟ୍ରାନ୍ସଡକ୍ସନ୍ ସନ ଉଦ୍ଭାବନ ହୋଇଥିଲା ।  
 (3) ଟ୍ରାନ୍ସଲେସନ୍ ରେ ସ୍ପାଲିସିଓଜୋମସ୍ ଭାଗ ନିଅନ୍ତି ।  
 (4) ବ୍ରିଟିଶ୍ ବୈଜ୍ଞାନିକଙ୍କ ଦ୍ଵାରା ପନେଟ୍ ସ୍କୋୟାର ଉଦ୍ଭାବନ ହୋଇଥିଲା ।
127. ‘ଅଫ୍ସେଟ୍’ ଗୁଡ଼ିକ କାହାଦ୍ଵାରା ଉତ୍ପନ୍ନ ହୁଅନ୍ତି ?  
 (1) ଅକ୍ଷ ବିଭାଜନ  
 (2) ଅନିଷ୍ପେକ ଜନନ  
 (3) ଅନିଷ୍ପେକ ଫଳନ  
 (4) ସମ ବିଭାଜନ
128. ନିମ୍ନଲିଖିତ ମଧ୍ୟରୁ କେଉଁଥିରେ ପ୍ରଥମେ ଡି.ଏନ.ଏ.ର ଅର୍ଦ୍ଧ-ରକ୍ଷଣଶୀଳ ପ୍ରତିଗଠନ ପାଇଁ ପରୀକ୍ଷଣ ପ୍ରମାଣିତ ହେବାର ଦେଖାଯାଇଥିଲା ?  
 (1) କବକ  
 (2) ଭୃତାଣୁ  
 (3) ଉଦ୍ଭିଦ  
 (4) ବ୍ୟାକ୍ଟେରିୟା

129. Select the **wrong** statement :

- (1) Cell wall is present in members of Fungi and Plantae.
- (2) Mitochondria are the powerhouse of the cell in all kingdoms except Monera.
- (3) Pseudopodia are locomotory and feeding structures in Sporozoans.
- (4) Mushrooms belong to Basidiomycetes.

130. Casparian strips occur in

- (1) Epidermis
- (2) Endodermis
- (3) Cortex
- (4) Pericycle

131. Which of the following statements is **correct** ?

- (1) Ovules are not enclosed by ovary wall in gymnosperms.
- (2) Stems are usually unbranched in both *Cycas* and *Cedrus*.
- (3) Horsetails are gymnosperms.
- (4) *Selaginella* is heterosporous, while *Salvinia* is homosporous.

132. Pneumatophores occur in

- (1) Halophytes
- (2) Submerged hydrophytes
- (3) Carnivorous plants
- (4) Free-floating hydrophytes

133. Sweet potato is a modified

- (1) Stem
- (2) Rhizome
- (3) Tap root
- (4) Adventitious root

134. Secondary xylem and phloem in dicot stem are produced by

- (1) Apical meristems
- (2) Axillary meristems
- (3) Phellogen
- (4) Vascular cambium

135. Plants having little or no secondary growth are

- (1) Grasses
- (2) Cycads
- (3) Conifers
- (4) Deciduous angiosperms

129. ଭୁଲ୍ ଉକ୍ତିଟିକୁ ବାଛ :

- (1) କବକ ଓ ପ୍ଲାଣ୍ଟ ଦଳରେ କୋଷ ଭିତ୍ତି ଉପସ୍ଥିତ ଥାଏ ।
- (2) ମୋନେରା ବ୍ୟତୀତ ସମସ୍ତ ଶ୍ରେଣୀ ବିଭାଗରେ ମାଇଟୋକଣ୍ଡ୍ରିଆ ଏକ ଶକ୍ତିଗୃହ ଅଟେ ।
- (3) ସ୍ପୋରୋଜୋଆନ୍ସ୍ ରେ କୃତ୍ରିମ ଗୁଡ଼ିକ ଚଳିତ ଓ ଖାଦ୍ୟ ସ୍ୱରୂପ ଗଠନ ଅଟେ ।
- (4) ବ୍ୟାସିଡ଼ିଓମାଇସିଟିର ଅଧୁନରେ ଛତୁକାତୀୟ ଉଦ୍ଭିଦ ଥାଏ ।

130. କାସ୍ପାରିଆନ୍ ସ୍ଟ୍ରିପ୍ସ କେଉଁଠାରେ ଥାଏ ?

- (1) ଏପିଡର୍ମିସ୍
- (2) ଏଣ୍ଡୋଡର୍ମିସ୍
- (3) କରଟେକ୍ସ
- (4) ପେରିସାଇକେଲ୍

131. ନିମ୍ନଲିଖିତ ମଧ୍ୟରୁ କେଉଁଗୋଟିକ **ସଠିକ୍** ଉକ୍ତି ଅଟେ ?

- (1) ନଗ୍ନବୀଜୀରେ ଗର୍ଭାଶୟର ପାଚେରୀ ଭିତରେ ଡିମ୍ବକି ବାନ୍ଧିହୋଇ ରହି ଥାଏ ।
- (2) ଉଭୟ *ସାଇକାସ୍* ଏବଂ *ସେଡ୍ରସ୍* ର କାଣ୍ଡଗୁଡ଼ିକ ସାଧାରଣତଃ ଟିସୁ ଶାଖାବିହୀନ ହୋଇଥାଆନ୍ତି ।
- (3) ହର୍ସଟେଲ ଗୁଡ଼ିକ ନଗ୍ନବୀଜୀ ହୋଇଥାଆନ୍ତି ।
- (4) ଯେତେବେଳେ *ସଲ୍‌ଭିନିଆ* ସମରେଶ୍ୱୟ ଥାଏ ସେତେବେଳେ *ସିଲ୍‌ଜିନେଲା* ଏକ ଅସମରେଶ୍ୱୟ ।

132. ନେମାଟୋଫୋରସ୍ କେଉଁ ଉଦ୍ଭିଦରେ ଥାଆନ୍ତି ?

- (1) ହାଲୋଫାଇଟସ୍
- (2) ନିମଗ୍ନ ଜଳଦ ଉଦ୍ଭିଦ
- (3) ମାସାଂସୀ ଉଦ୍ଭିଦ
- (4) ମୁକ୍ତ ଭାସମାନ ଜଳଦ ଉଦ୍ଭିଦ

133. କନ୍ୟମୂଳ କାହାର ପରିବର୍ତ୍ତିତ ରୂପ ?

- (1) କାଣ୍ଡ
- (2) ରାଇଜୋମ୍
- (3) ଖନ୍ୟମୂଳ
- (4) ଗୁଚ୍ଛ ମୂଳ

134. ଦ୍ୱୀବୀଜପତ୍ରୀ ରେ ଥିବା ଦ୍ୱିତୀୟକ ସଂବାହି ଟିସୁ ଓ ପୋଷକ ବାହି ଟିସୁ କେଉଁଠାରେ ଉତ୍ପନ୍ନ ହୁଅନ୍ତି ?

- (1) ଆପିକାଲ୍ ମେରିଷ୍ଟେମସ୍
- (2) ଆକ୍ସିଲାରୀ ମେରିଷ୍ଟେମସ୍
- (3) ଫେଲୋଜେନ
- (4) ସଂବାହୀ କ୍ୟାମ୍ବିୟମ୍

135. କେଉଁ ଉଦ୍ଭିଦ ଗୁଡ଼ିକରେ ସ୍ୱଳ୍ପ ବା ଦ୍ୱିତୀୟକ ବୃଦ୍ଧି ହୁଏ ନାହିଁ ?

- (1) ଘାସ
- (2) ସାଇକାଡସ୍
- (3) କୋନିଫରସ୍
- (4) ପର୍ଣ୍ଣମୋକ୍ଷ ଆବୃତବୀଜୀ

136. The power radiated by a black body is  $P$  and it radiates maximum energy at wavelength,  $\lambda_0$ . If the temperature of the black body is now changed so that it radiates maximum energy at wavelength  $\frac{3}{4}\lambda_0$ , the power radiated by it becomes  $nP$ . The value of  $n$  is

- (1)  $\frac{3}{4}$
- (2)  $\frac{81}{256}$
- (3)  $\frac{256}{81}$
- (4)  $\frac{4}{3}$

137. Two wires are made of the same material and have the same volume. The first wire has cross-sectional area  $A$  and the second wire has cross-sectional area  $3A$ . If the length of the first wire is increased by  $\Delta l$  on applying a force  $F$ , how much force is needed to stretch the second wire by the same amount ?

- (1)  $9F$
- (2)  $F$
- (3)  $4F$
- (4)  $6F$

138. A sample of  $0.1$  g of water at  $100^\circ\text{C}$  and normal pressure ( $1.013 \times 10^5 \text{ Nm}^{-2}$ ) requires  $54$  cal of heat energy to convert to steam at  $100^\circ\text{C}$ . If the volume of the steam produced is  $167.1$  cc, the change in internal energy of the sample, is

- (1)  $104.3$  J
- (2)  $84.5$  J
- (3)  $42.2$  J
- (4)  $208.7$  J

139. A small sphere of radius ' $r$ ' falls from rest in a viscous liquid. As a result, heat is produced due to viscous force. The rate of production of heat when the sphere attains its terminal velocity, is proportional to

- (1)  $r^3$
- (2)  $r^4$
- (3)  $r^5$
- (4)  $r^2$

136. ଏକ କଳାବସ୍ତୁଦ୍ୱାରା  $P$  ପାୱାର ବିକିରଣ ହୁଏ ଓ ଚରଙ୍ଗଦୈର୍ଘ୍ୟ  $\lambda_0$  ରେ ଏହା ସର୍ବାଧିକ ଶକ୍ତି ବିକିରଣ କରେ । ଯଦି କଳାବସ୍ତୁର ତାପମାତ୍ରାକୁ ବର୍ତ୍ତମାନ ପରିବର୍ତ୍ତନ କରାଯାଏ ଯେଉଁଥିପାଇଁ  $\frac{3}{4}\lambda_0$  ଚରଙ୍ଗଦୈର୍ଘ୍ୟରେ ସର୍ବାଧିକ ଶକ୍ତି ବିକିରଣ ହୋଇପାରିବ, ଯାହାଦ୍ୱାରା ପାୱାର ବିକିରଣ  $nP$  ହୋଇଯିବ । ତାହାହେଲେ  $n$  ର ମୂଲ୍ୟହେବ ।

- (1)  $\frac{3}{4}$
- (2)  $\frac{81}{256}$
- (3)  $\frac{256}{81}$
- (4)  $\frac{4}{3}$

137. ଦୁଇଟି ତାର ଏକା ଉପାଦାନ ଓ ସମାନ ଆୟତନରେ ତିଆରି ହୋଇଅଛନ୍ତି । ପ୍ରଥମଟିର ପ୍ରସ୍ଥଚ୍ଛେଦ କ୍ଷେତ୍ରଫଳ  $A$  ଓ ଦ୍ୱିତୀୟଟିର ପ୍ରସ୍ଥଚ୍ଛେଦ କ୍ଷେତ୍ରଫଳ  $3A$  ଅଟେ । ଏକ ବଳ  $F$  ପ୍ରୟୋଗକରି ପ୍ରଥମ ତାରର ଦୈର୍ଘ୍ୟକୁ  $\Delta l$  ରେ ବୃଦ୍ଧିକଲେ, ଦ୍ୱିତୀୟ ତାରର ସେହି ସମାନ ପରିମାଣର ବୃଦ୍ଧିପାଇଁ କେତେ ପରିମାଣର ବଳ ପ୍ରୟୋଗ କରାଯିବ ।

- (1)  $9F$
- (2)  $F$
- (3)  $4F$
- (4)  $6F$

138.  $0.1$  g ର ପାଣିର ଏକ ନମୁନା, ତାପମାତ୍ରା  $100^\circ\text{C}$  ଓ ସାଧାରଣ ଚାପ ( $1.013 \times 10^5 \text{ Nm}^{-2}$ ) ରେ  $100^\circ\text{C}$  ରେ ବାଷ୍ପରେ ପରିଣତ ହେବାପାଇଁ  $54$  cal ର ତାପୀୟ ଶକ୍ତି ଦରକାର କରେ । ଯଦି ଉତ୍ପାଦନ ହେଉଥିବା ବାଷ୍ପର ଆୟତନ  $167.1$  cc ହୁଏ, ତାହାହେଲେ ନମୁନାର ଆଭ୍ୟନ୍ତରୀଣ ଶକ୍ତିରେ କେତେ ପରିବର୍ତ୍ତନ ହେବ

- (1)  $104.3$  J
- (2)  $84.5$  J
- (3)  $42.2$  J
- (4)  $208.7$  J

139. ' $r$ ' ବ୍ୟାସାର୍ଦ୍ଧର ଏକ କ୍ଷୁଦ୍ର ଗୋଲକ ସ୍ଥିର ଅବସ୍ଥାରୁ ଏକ ଅଠାଳିଆ ତରଳ ମଧ୍ୟରେ ପଡ଼ିଲା । ଫଳରେ ଭିସ୍କୋସ୍ ବଳ ଯୋଗୁ ତାପ ଉତ୍ପାଦନ ହେଲା । ଗୋଲକଟି ଏହାର ଚର୍ମନାଳ ପରିବେଗରେ ପହଞ୍ଚିବାରେ ଉତ୍ପଦିତ ଉତାପର ହାର କାହାସହିତ ସମାନୁପାତୀ ?

- (1)  $r^3$
- (2)  $r^4$
- (3)  $r^5$
- (4)  $r^2$

140. An electron falls from rest through a vertical distance  $h$  in a uniform and vertically upward directed electric field  $E$ . The direction of electric field is now reversed, keeping its magnitude the same. A proton is allowed to fall from rest in it through the same vertical distance  $h$ . The time of fall of the electron, in comparison to the time of fall of the proton is

- (1) smaller
- (2) equal
- (3) 10 times greater
- (4) 5 times greater

141. A pendulum is hung from the roof of a sufficiently high building and is moving freely to and fro like a simple harmonic oscillator. The acceleration of the bob of the pendulum is  $20 \text{ m/s}^2$  at a distance of 5 m from the mean position. The time period of oscillation is

- (1)  $2\pi \text{ s}$
- (2) 1 s
- (3) 2 s
- (4)  $\pi \text{ s}$

142. The electrostatic force between the metal plates of an isolated parallel plate capacitor  $C$  having a charge  $Q$  and area  $A$ , is

- (1) independent of the distance between the plates.
- (2) inversely proportional to the distance between the plates.
- (3) proportional to the square root of the distance between the plates.
- (4) linearly proportional to the distance between the plates.

143. A tuning fork is used to produce resonance in a glass tube. The length of the air column in this tube can be adjusted by a variable piston. At room temperature of  $27^\circ\text{C}$  two successive resonances are produced at 20 cm and 73 cm of column length. If the frequency of the tuning fork is 320 Hz, the velocity of sound in air at  $27^\circ\text{C}$  is

- (1) 330 m/s
- (2) 300 m/s
- (3) 350 m/s
- (4) 339 m/s

140. ଏକ ଇଲେକ୍ଟ୍ରନ୍ ବିଶ୍ରାମ ଅବସ୍ଥାରୁ ଏକ ଭୂଲମ୍ବୀୟ ଦୂରତା  $h$  ରେ, ସମାନ ଓ ଭୂଲମ୍ବର ଉର୍ଦ୍ଧ୍ୱକୁ ନିର୍ଦ୍ଦେଶୀତ ଏକ ବିଦ୍ୟୁତ୍ କ୍ଷେତ୍ର  $E$  କୁ ଖସିପଡ଼ିଲା । ବର୍ତ୍ତମାନ ବିଦ୍ୟୁତ୍ କ୍ଷେତ୍ରର ପରିମାଣକୁ ସମାନ ରଖି ଦିଗକୁ ଓଲଟାଗଲା । ସେହି ଏକାଭୂଲମ୍ବୀୟ ଦୂରତା  $h$  ରେ ଏକ ପ୍ରୋଟନ୍‌କୁ ବିଶ୍ରାମ ଅବସ୍ଥାରୁ ଖସିପଡ଼ିବା ପାଇଁ ଅନୁମତି ଦିଆଗଲା । ଇଲେକ୍ଟ୍ରନ୍‌ର ପତନ ସମୟ, ପ୍ରୋଟନ୍‌ର ପତନ ସମୟ ତୁଳନାରେ

- (1) କମ୍
- (2) ସମାନ
- (3) 10 ଗୁଣ ଅଧିକ
- (4) 5 ଗୁଣ ଅଧିକ

141. ଏକ ଉଚ୍ଚକୋଠାର ଛାତରୁ ପେଣ୍ଡୁଲମ୍ ଟିଏ ଝୁଲାଇବାରୁ ଏହା ମୁକ୍ତରେ ଏକ ସରଳ ହାରମୋନିକ୍ ଅସିଲେଟର୍ ପରି ପଛକୁ ଆଗକୁ ଦୋଳନ କଲା । ମଧ୍ୟ ଅବସ୍ଥାନରୁ 5 m ଦୂରତାରେ ପେଣ୍ଡୁଲମ୍ ବକ୍ତିର ଦ୍ରବଣ  $20 \text{ m/s}^2$  ଅଟେ । ଏହି ଦୋଳନରେ ଆବର୍ତ୍ତକାଳ ହେବ ।

- (1)  $2\pi \text{ s}$
- (2) 1 s
- (3) 2 s
- (4)  $\pi \text{ s}$

142. ପୃଥକ ଭାବେ ଥିବା ଦୁଇଟି ସମାନ୍ତରାଳ ଧାତବୀୟ ପ୍ଲେଟ ଧାରିତ୍ର  $C$  ଚାର୍ଜ  $Q$  ଓ କ୍ଷେତ୍ରଫଳ  $A$  ରେ ସ୍ଥିର ବିଦ୍ୟୁତ୍ ବଳ ହେବ

- (1) ଦୁଇଟି ପ୍ଲେଟ ମଧ୍ୟରେ ଥିବା ଦୂରତା ଉପରେ ନିର୍ଭର କରେ ନାହିଁ ।
- (2) ଦୁଇଟି ପ୍ଲେଟ ମଧ୍ୟରେ ଥିବା ଦୂରତା ସହିତ ପ୍ରତିଲୋମାନୁପାତୀ ।
- (3) ପ୍ଲେଟ ଦୁଇଟି ମଧ୍ୟରେ ଥିବା ଦୂରତାର ବର୍ଗମୂଳ ସହ ସମାନୁପାତୀ ।
- (4) ଦୁଇଟି ପ୍ଲେଟ ଦୂରତା ମଧ୍ୟରେ ରୈଖିକ ସମାନୁପାତୀ ।

143. ଏକ କାଚ ନଳୀରେ ଅନୁନାଦ ସୃଷ୍ଟି କରିବା ପାଇଁ ଏକ ଟ୍ୟୁନିଙ୍ଗ ଫର୍କ୍ ବ୍ୟବହାର କରାଯାଏ । ଏକ ପରିବର୍ତ୍ତନଶୀଳ ପିଷ୍ଟନ୍‌ଦ୍ୱାରା ଏହି ନଳୀରେ ଚାନ୍ଦୁସ୍ତମ୍ଭର ଦୈର୍ଘ୍ୟକୁ ନିୟନ୍ତ୍ରଣ କରାଯାଏ ।  $27^\circ\text{C}$  ର କକ୍ଷତାପମାତ୍ରାରେ ଦୁଇଟି କ୍ରମାଗତଭାବେ ଅନୁନାଦ 20 cm ଓ 73 cm ବାୟୁର ସ୍ତମ୍ଭଦୈର୍ଘ୍ୟରେ ଉତ୍ପାଦିତ ହେଲା । ଯଦି ଟ୍ୟୁନିଙ୍ଗ ଫର୍କ୍‌ଟିର ଆବୃତ୍ତି 320 Hz ହୁଏ, ତାହାହେଲେ ପବନର  $27^\circ\text{C}$  ରେ ଧ୍ୱନିର ପରିବେଗ ହେବ ।

- (1) 330 m/s
- (2) 300 m/s
- (3) 350 m/s
- (4) 339 m/s

144. The ratio of kinetic energy to the total energy of an electron in a Bohr orbit of the hydrogen atom, is

- (1) 1 : 1
- (2) 1 : - 2
- (3) 2 : - 1
- (4) 1 : - 1

145. When the light of frequency  $2\nu_0$  (where  $\nu_0$  is threshold frequency), is incident on a metal plate, the maximum velocity of electrons emitted is  $v_1$ . When the frequency of the incident radiation is increased to  $5\nu_0$ , the maximum velocity of electrons emitted from the same plate is  $v_2$ . The ratio of  $v_1$  to  $v_2$  is

- (1) 1 : 2
- (2) 2 : 1
- (3) 4 : 1
- (4) 1 : 4

146. For a radioactive material, half-life is 10 minutes. If initially there are 600 number of nuclei, the time taken (in minutes) for the disintegration of 450 nuclei is

- (1) 20
- (2) 15
- (3) 30
- (4) 10

147. An electron of mass  $m$  with an initial velocity  $\vec{V} = V_0 \hat{i}$  ( $V_0 > 0$ ) enters an electric field  $\vec{E} = -E_0 \hat{i}$  ( $E_0 = \text{constant} > 0$ ) at  $t = 0$ . If  $\lambda_0$  is its de-Broglie wavelength initially, then its de-Broglie wavelength at time  $t$  is

- (1)  $\frac{\lambda_0}{\left(1 + \frac{eE_0}{mV_0} t\right)}$
- (2)  $\lambda_0$
- (3)  $\lambda_0 t$
- (4)  $\lambda_0 \left(1 + \frac{eE_0}{mV_0} t\right)$

144. ଉଦ୍‌ଯାନ ପରମାଣୁର, ବୋହର୍‌ଙ୍କ କକ୍ଷରେ ଗତିକଶିଳ୍ପି ଓ ସମୁଦାୟ ଶକ୍ତି ମଧ୍ୟରେ ଅନୁପାତ ହେବ

- (1) 1 : 1
- (2) 1 : - 2
- (3) 2 : - 1
- (4) 1 : - 1

145. କେଉଁ ଧାତୁର ପୃଷ୍ଠର ଆବୃତ୍ତି  $2\nu_0$  (ଯେତେବେଳେ  $\nu_0$  ହେଉଛି ପ୍ରଭାବସୀମା ଆବୃତ୍ତି) ଆଲୋକ ଏକ ଧାତବ ପ୍ଲେଟର ପୃଷ୍ଠ ଉପରେ ପଡ଼ିବାରୁ ବିଚ୍ଛୁରିତ ହୋଇଥିବା ଇଲେକ୍ଟ୍ରନ୍ ମାନଙ୍କର ସର୍ବାଧିକ ପରିବେଗ  $v_1$  ଅଟେ । ଯେତେବେଳେ ଆପତନ ବିକିରଣର ଆବୃତ୍ତିକୁ  $5\nu_0$  କୁ ବୃଦ୍ଧିକରାଯାଏ, ସେହି ସମାନ ପ୍ଲେଟରୁ  $v_2$  ସର୍ବାଧିକ ପରିବେଗରେ ଇଲେକ୍ଟ୍ରନ୍ ବିକିରଣ ହୋଇଥାଆନ୍ତି ।  $v_1$  ଓ  $v_2$  ର ଅନୁପାତ ହେବ

- (1) 1 : 2
- (2) 2 : 1
- (3) 4 : 1
- (4) 1 : 4

146. ଏକ ତେଜସ୍କ୍ରିୟ ପଦାର୍ଥର ଅର୍ଦ୍ଧ-ଆୟୁକାଳ ହେଉଛି 10 ମିନିଟ୍ । ପ୍ରଥମରେ ଯଦି 600 ସଂଖ୍ୟକ ଦ୍ୱିକ୍ଳା ଥାଆନ୍ତି 450 ସଂଖ୍ୟକ ଦ୍ୱିକ୍ଳାର ବିଘନଟ ପାଇଁ କେତେ ସମୟ (ମିନିଟ୍‌ରେ) ଦରକାର ।

- (1) 20
- (2) 15
- (3) 30
- (4) 10

147.  $m$  ବସ୍ତୁତ୍ୱଯୁକ୍ତ ଏକ ଇଲେକ୍ଟ୍ରନ୍ ଏହାର ପ୍ରାଥମିକ ପରିବେଗ  $\vec{V} = V_0 \hat{i}$  ( $V_0 > 0$ ) ଓ ସମୟ  $t = 0$  ରେ ଏକ ବୈଦ୍ୟୁତିକ କ୍ଷେତ୍ର  $\vec{E} = -E_0 \hat{i}$  ( $E_0 = \text{ସ୍ଥିରାଙ୍କ} > 0$ ) ରେ ପ୍ରବେଶକଲା । ପ୍ରଥମେ ଯଦି ଡିବ୍ରୋଗ୍ଲିଙ୍କ ତରଙ୍ଗଦୈର୍ଘ୍ୟ  $\lambda_0$  ଥାଏ, ସମୟ  $t$  ରେ ଡିବ୍ରୋଗ୍ଲିଙ୍କ ତରଙ୍ଗଦୈର୍ଘ୍ୟ ହେବ

- (1)  $\frac{\lambda_0}{\left(1 + \frac{eE_0}{mV_0} t\right)}$
- (2)  $\lambda_0$
- (3)  $\lambda_0 t$
- (4)  $\lambda_0 \left(1 + \frac{eE_0}{mV_0} t\right)$



148. An inductor 20 mH, a capacitor 100  $\mu$ F and a resistor 50  $\Omega$  are connected in series across a source of emf,  $V = 10 \sin 314 t$ . The power loss in the circuit is

- (1) 0.79 W
- (2) 1.13 W
- (3) 2.74 W
- (4) 0.43 W

149. A metallic rod of mass per unit length 0.5 kg  $m^{-1}$  is lying horizontally on a smooth inclined plane which makes an angle of  $30^\circ$  with the horizontal. The rod is not allowed to slide down by flowing a current through it when a magnetic field of induction 0.25 T is acting on it in the vertical direction. The current flowing in the rod to keep it stationary is

- (1) 7.14 A
- (2) 11.32 A
- (3) 14.76 A
- (4) 5.98 A

150. A thin diamagnetic rod is placed vertically between the poles of an electromagnet. When the current in the electromagnet is switched on, then the diamagnetic rod is pushed up, out of the horizontal magnetic field. Hence the rod gains gravitational potential energy. The work required to do this comes from

- (1) the current source
- (2) the induced electric field due to the changing magnetic field
- (3) the lattice structure of the material of the rod
- (4) the magnetic field

151. Current sensitivity of a moving coil galvanometer is 5 div/mA and its voltage sensitivity (angular deflection per unit voltage applied) is 20 div/V. The resistance of the galvanometer is

- (1) 40  $\Omega$
- (2) 500  $\Omega$
- (3) 250  $\Omega$
- (4) 25  $\Omega$

148. ଏକ ପ୍ରଶୋଦକ 20 mH, ଏକ ଧାରିତ୍ର 100  $\mu$ F ଓ ଏକ ପ୍ରତିରୋଧ 50  $\Omega$  ର  $V = 10 \sin 314 t$  ବିଦ୍ୟୁତ୍ ବାହାକ ବଳ (emf) ବହନକରୁଥିବା ଏକ ଉତ୍ସସହିତ ଶ୍ରେଣୀରେ ସଂଯୋଗ କରାଗଲେ । ପରିପଥଟିର କେତେ ପରିମାଣର ପାଞ୍ଚାନ୍ତ ହେବ

- (1) 0.79 W
- (2) 1.13 W
- (3) 2.74 W
- (4) 0.43 W

149. ଏକ ଧାତବ ଦଣ୍ଡର ଏକକ ଦୈର୍ଘ୍ୟପାଇଁ ବସ୍ତୁତ୍ୱ 0.5 kg  $m^{-1}$  ଅଟେ । ଧାତବ ଦଣ୍ଡଟି ଏକ ଚିକ୍ନକଣ ଆନତ ସମତଳରେ ଭୂସମାନ୍ତର ସହ  $30^\circ$  କୋଣ କରିଥିବା ପୁଷ୍ଟରେ ଭୂସମାନ୍ତରରେ ରହିଲା । ଦଣ୍ଡଟିକୁ ଖସଡିବାକୁ ଅନୁମତି ଦିଆଗଲା ନାହିଁ । ଏଥିରେ ବିଦ୍ୟୁତ୍ ସ୍ରୋତ ପ୍ରବାହକରାଇ 0.25 T ର ରୁମ୍ବକୀୟ କ୍ଷେତ୍ର ପ୍ରଶୋଦକ ଭୂଲମ୍ବଦିଗରେ କାର୍ଯ୍ୟକଲା । ରଡ୍ଟିକୁ ସ୍ଥିର ରଖିବାପାଇଁ କେତେ ପରିମାଣର ବିଦ୍ୟୁତ୍ ସ୍ରୋତ ପ୍ରବାହ ହିତ କରାଯିବ ?

- (1) 7.14 A
- (2) 11.32 A
- (3) 14.76 A
- (4) 5.98 A

150. ଏକ ବିଦ୍ୟୁତ୍ ରୁମ୍ବକର ଦୁଇ ମେରୁ ମଧ୍ୟରେ, ପତଳା ଦ୍ୱିରୁମ୍ବକୀୟ ଦଣ୍ଡଟିଏ ଭୂଲମ୍ବୀୟ ଭାବେ ରଖାଗଲା । ଯେତେବେଳେ ବିଦ୍ୟୁତ୍ ରୁମ୍ବକରେ ବିଦ୍ୟୁତ୍ ସ୍ରୋତ ପ୍ରବାହ କରାଗଲା, ଦ୍ୱିରୁମ୍ବକୀୟ ଦଣ୍ଡଟି ଭୂସମାନ୍ତରୀଣ ରୁମ୍ବକୀୟ କ୍ଷେତ୍ରରୁ ଉପରକୁ ଠେଲି ହୋଇଗଲା । ତଦ୍ୱାରା ଦଣ୍ଡଟି ମାଧ୍ୟାକର୍ଷଣଜନିତ ସ୍ଥିତିଜ ଶକ୍ତି ଲାଭ କଲା । ଏହା କରିବାପାଇଁ ଯେଉଁ କାର୍ଯ୍ୟ ଦରକାର ତାହା କେଉଁଠାରୁ ଆସେ ?

- (1) ବିଦ୍ୟୁତ୍ ସ୍ରୋତର ଉତ୍ସ
- (2) ରୁମ୍ବକୀୟ କ୍ଷେତ୍ର ପରିବର୍ତ୍ତନରୁ ବିଦ୍ୟୁତ୍ କ୍ଷେତ୍ର ପ୍ରମୋଦକତା
- (3) ଦଣ୍ଡଟିର ଜାଲି ଢାଞ୍ଚା
- (4) ରୁମ୍ବକୀୟ କ୍ଷେତ୍ର

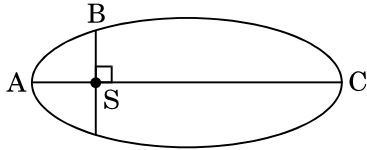
151. ଏକ ମୁଭିଙ୍ଗ୍ କଲେ ଗାଲ୍‌ଭାନୋମିଟରର ବିଦ୍ୟୁତ୍ ସ୍ରୋତର ସ୍ୱର୍ଣ୍ଣକାତରତା 5 div/mA ଅଟେ ଓ ଏହାର ଭୋଲ୍‌ଟେଜ୍ ସ୍ୱର୍ଣ୍ଣକାତରତା (ଏକକ ଭୋଲ୍‌ଟେଜ୍ ପ୍ରୟୋଗପାଇଁ କୌଣସି ବିଚ୍ୟୁତି) 20 div/V ଅଟେ । ଗାଲ୍‌ଭାନୋମିଟରର ପ୍ରତିରୋଧତା ହେବ

- (1) 40  $\Omega$
- (2) 500  $\Omega$
- (3) 250  $\Omega$
- (4) 25  $\Omega$

152. A solid sphere is in rolling motion. In rolling motion a body possesses translational kinetic energy ( $K_t$ ) as well as rotational kinetic energy ( $K_r$ ) simultaneously. The ratio  $K_t : (K_t + K_r)$  for the sphere is

- (1) 7 : 10
- (2) 2 : 5
- (3) 10 : 7
- (4) 5 : 7

153. The kinetic energies of a planet in an elliptical orbit about the Sun, at positions A, B and C are  $K_A$ ,  $K_B$  and  $K_C$ , respectively. AC is the major axis and SB is perpendicular to AC at the position of the Sun S as shown in the figure. Then



- (1)  $K_A < K_B < K_C$
- (2)  $K_B > K_A > K_C$
- (3)  $K_B < K_A < K_C$
- (4)  $K_A > K_B > K_C$

154. If the mass of the Sun were ten times smaller and the universal gravitational constant were ten times larger in magnitude, which of the following is **not** correct ?

- (1) Raindrops will fall faster.
- (2) 'g' on the Earth will not change.
- (3) Time period of a simple pendulum on the Earth would decrease.
- (4) Walking on the ground would become more difficult.

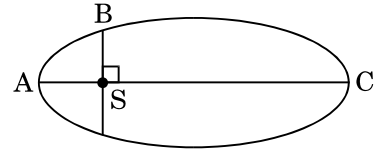
155. A solid sphere is rotating freely about its symmetry axis in free space. The radius of the sphere is increased keeping its mass same. Which of the following physical quantities would remain constant for the sphere ?

- (1) Angular velocity
- (2) Angular momentum
- (3) Rotational kinetic energy
- (4) Moment of inertia

152. ଏକ କଠିନ ଗୋଲକ ଗଡ଼ାଣିଆ ଗତିରେ ଅଛି । ଗଡ଼ାଣିଆ ଗତିରେ ଗୋଲକଟି ଏକକାଳୀନ ରେଖୀୟ ଗତିଜ ଶକ୍ତି ( $K_t$ ) ଓ ଆବର୍ତ୍ତନୀୟ ଗତିଜ ଶକ୍ତି ( $K_r$ ) ଅଧିକାର କରିଥାଏ । ଗୋଲକର  $K_t : (K_t + K_r)$  ଅନୁପାତ ହେବ

- (1) 7 : 10
- (2) 2 : 5
- (3) 10 : 7
- (4) 5 : 7

153. ସୂର୍ଯ୍ୟ ଚାରିପଟେ ଏକ ଆଣ୍ଡାକୃତି କକ୍ଷରେ ଏକ ଗ୍ରହର A, B ଓ C ଅବସ୍ଥାନରେ ଗତିଜଶକ୍ତି ଯଥାକ୍ରମେ  $K_A$ ,  $K_B$  ଓ  $K_C$  ଅଟେ । AC ହେଉଛି ଏକ ବଡ଼ ଅକ୍ଷ ଓ SB, AC ଉପରେ ସୂର୍ଯ୍ୟଙ୍କର ସ୍ଥିତି S ରେ ଥିବାବେଳେ ଅକ୍ଷ ଅଭିଲମ୍ବ । ତାହାହେଲେ କେଉଁଟି ଠିକ୍ ।



- (1)  $K_A < K_B < K_C$
- (2)  $K_B > K_A > K_C$
- (3)  $K_B < K_A < K_C$
- (4)  $K_A > K_B > K_C$

154. ଯଦି ସୂର୍ଯ୍ୟଙ୍କର ବସ୍ତୁତ୍ତ୍ୱକୁ 10 ଗୁଣରେ କମାଯାଏ ସାର୍ବଜନୀନ ମାଧ୍ୟାକର୍ଷଣ ଜନିତ ଧ୍ରୁବାଙ୍କକୁ 10 ଗୁଣରେ ବଢ଼ାଯାଏ, ପରିମାଣ ଅନୁସାରେ କେଉଁଟି ଠିକ୍ ହୁଏ ?

- (1) ଜଳବିନ୍ଦୁଗୁଡ଼ିକ ଶୀଘ୍ର ଖସିପଡ଼ିବେ ।
- (2) ପୃଥିବୀ ପୃଷ୍ଠରେ 'g' ର ମୂଲ୍ୟ ପରିବର୍ତ୍ତନ ହେବ ନାହିଁ ।
- (3) ପୃଥିବୀ ପୃଷ୍ଠରେ ଏକ ସରଳ ଦୋଳ୍ୟରେ ଆବର୍ତ୍ତକାଳ କମିହୋଇ ଯିବ ।
- (4) ଭୂମିରେ ଚାଲିବାପାଇଁ ଅଧିକ ଅସୁବିଧା ହେବ ।

155. ଶୂନ୍ୟରେ ଏକ କଠିନ ଗୋଲକ ଏହାର ଅକ୍ଷଚାରିପଟେ ପ୍ରତିସାମ୍ୟରଖି ମୁକ୍ତରେ ଘୁରୁଅଛି । ଗୋଲକର ବସ୍ତୁତ୍ତ୍ୱ ସମାନରଖି, ବ୍ୟାସାର୍ଦ୍ଧକୁ ବୃଦ୍ଧିକରାଗଲା । ଗୋଲକ ପାଇଁ ନିମ୍ନଲିଖିତ କେଉଁ ଭୌତିକ ରାଶିଟି ସ୍ଥିର ରହିବ ?

- (1) କୌଣସି ପରିବେଗ
- (2) କୌଣସି ସଂବେଗ
- (3) ଆବର୍ତ୍ତନୀୟ ଗତିଜଶକ୍ତି
- (4) ଜଡ଼ତ୍ୱ ଆଘର୍ଷ

**156.** Unpolarised light is incident from air on a plane surface of a material of refractive index ' $\mu$ '. At a particular angle of incidence ' $i$ ', it is found that the reflected and refracted rays are perpendicular to each other. Which of the following options is correct for this situation ?

- (1) Reflected light is polarised with its electric vector parallel to the plane of incidence
- (2)  $i = \tan^{-1}\left(\frac{1}{\mu}\right)$
- (3)  $i = \sin^{-1}\left(\frac{1}{\mu}\right)$
- (4) Reflected light is polarised with its electric vector perpendicular to the plane of incidence

**157.** In Young's double slit experiment the separation  $d$  between the slits is 2 mm, the wavelength  $\lambda$  of the light used is 5896 Å and distance  $D$  between the screen and slits is 100 cm. It is found that the angular width of the fringes is  $0.20^\circ$ . To increase the fringe angular width to  $0.21^\circ$  (with same  $\lambda$  and  $D$ ) the separation between the slits needs to be changed to

- (1) 1.8 mm
- (2) 1.7 mm
- (3) 2.1 mm
- (4) 1.9 mm

**158.** An astronomical refracting telescope will have large angular magnification and high angular resolution, when it has an objective lens of

- (1) small focal length and large diameter
- (2) small focal length and small diameter
- (3) large focal length and large diameter
- (4) large focal length and small diameter

**156.** ଅନ୍‌ପୋଲାରାଇଜଡ୍ ଆଲୋକ, ବାୟୁରୁ ' $\mu$ ' ପ୍ରତିସରଣୀୟ ଥିବା ଏକ ବସ୍ତୁର ସମତଳପୃଷ୍ଠରେ ଆପତନ ହେଲା । ଏହା ଦେଖାଗଲାଯେ କୌଣସି ଏକ ନିର୍ଦ୍ଦିଷ୍ଟ ଆପତନ କୋଣ ' $i$ ' ପାଇଁ ପ୍ରତିଫଳିତ ଓ ପ୍ରତିସରିତ ରଶ୍ମି ଦ୍ୱୟ ଉଭୟ ସହିତ ଲମ୍ବଭାବେ ରହିଲେ । ନିମ୍ନଲିଖିତ କେଉଁ ଉତ୍ତରଟି ଠିକ୍ । ଏହି ପରିସ୍ଥିତି ପାଇଁ ?

- (1) ପ୍ରତିଫଳିତ ଆଲୋକ ପୋଲାରାଇଜଡ୍ ହେବ ଓ ଏହାର ବିଦ୍ୟୁତ୍ ସଦିଶ ଆପତନ ସମତଳ ସହ ସମାନ୍ତରାଳରେ ରହିବ
- (2)  $i = \tan^{-1}\left(\frac{1}{\mu}\right)$
- (3)  $i = \sin^{-1}\left(\frac{1}{\mu}\right)$
- (4) ପ୍ରତିଫଳିତ ଆଲୋକ ପୋଲାରାଇଜଡ୍ ହେବ ଓ ବିଦ୍ୟୁତ୍ ସଦିଶ ଆପତନ ସମତଳ ସହ ଲମ୍ବଭାବେ ରହିବ

**157.** ଯଙ୍ଗଙ୍କ ଦ୍ୱିଛିଦ୍ର ପରୀକ୍ଷଣରେ ଦୁଇଟିଯାକ ଛିଦ୍ର ମଧ୍ୟରେ ଦୂରତା  $d$ , 2 mm ଅଟେ । ଆଲୋକର ତରଙ୍ଗଦୈର୍ଘ୍ୟ  $\lambda = 5896 \text{ \AA}$  ଏବଂ ପରଦା ଓ ଛିଦ୍ର ମଧ୍ୟରେ ଦୂରତା  $D$ , 100 cm ଅଟେ । ଏହା ଦେଖାଗଲା ଯେ ଫ୍ରିଞ୍ଜମାନଙ୍କ ମଧ୍ୟରେ କୌଣସିକ ପ୍ରସ୍ଥ  $0.20^\circ$  ଅଟେ । ସେହି ତରଙ୍ଗ ଦୈର୍ଘ୍ୟ ( $\lambda$  ଓ ଦୂରତା  $D$ ) କୁ ସମାନରଖି । ଫ୍ରିଞ୍ଜମାନଙ୍କ ମଧ୍ୟରେ କୌଣସିକ ପ୍ରସ୍ଥକୁ  $0.21^\circ$  କୁ ବୃଦ୍ଧିକରାଇଲେ ଛିଦ୍ରଦୁଇଟି ମଧ୍ୟରେ ଦୂରତାକୁ କେଉଁ ମୂଲ୍ୟକୁ ପରିବର୍ତ୍ତନ କରିବା ଦରକାର ?

- (1) 1.8 mm
- (2) 1.7 mm
- (3) 2.1 mm
- (4) 1.9 mm

**158.** ଏକ ଆଷ୍ଟ୍ରୋନୋମିକାଲ ପ୍ରତିସରିତ ଟେଲିସ୍କୋପର ଅଧିକ କୌଣସିକ ବର୍ଦ୍ଧନ ଓ ଉଚ୍ଚ କୌଣସିକ ଆକାର ପରିବର୍ତ୍ତକ ଶକ୍ତି ହେବ । ଯେତେବେଳେ ଏହି ଟେଲି ସ୍କୋପର ଅଭିଦୃଶ୍ୟକ ଲେନ୍‌ସର

- (1) କମ୍ ଫୋକାଲ୍ ଦୂରତା ଓ ଅଧିକ ବ୍ୟାସ
- (2) କମ୍ ଫୋକାଲ୍ ଦୂରତା ଓ କମ୍ ବ୍ୟାସ
- (3) ଅଧିକ ଫୋକାଲ୍ ଦୂରତା ଓ ଅଧିକ ବ୍ୟାସ
- (4) ଅଧିକ ଫୋକାଲ୍ ଦୂରତା ଓ କମ୍ ବ୍ୟାସ

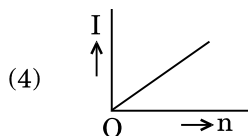
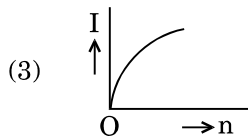
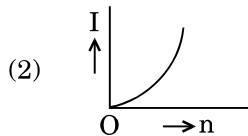
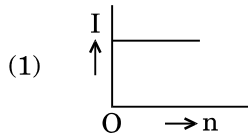
**159.** A carbon resistor of  $(47 \pm 4.7) \text{ k}\Omega$  is to be marked with rings of different colours for its identification. The colour code sequence will be

- (1) Violet – Yellow – Orange – Silver
- (2) Green – Orange – Violet – Gold
- (3) Yellow – Green – Violet – Gold
- (4) Yellow – Violet – Orange – Silver

**160.** A set of 'n' equal resistors, of value 'R' each, are connected in series to a battery of emf 'E' and internal resistance 'R'. The current drawn is I. Now, the 'n' resistors are connected in parallel to the same battery. Then the current drawn from battery becomes 10 I. The value of 'n' is

- (1) 10
- (2) 9
- (3) 20
- (4) 11

**161.** A battery consists of a variable number 'n' of identical cells (having internal resistance 'r' each) which are connected in series. The terminals of the battery are short-circuited and the current I is measured. Which of the graphs shows the correct relationship between I and n ?



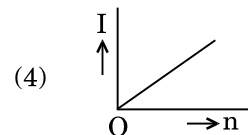
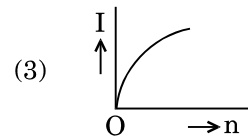
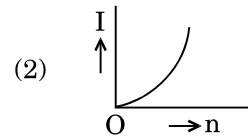
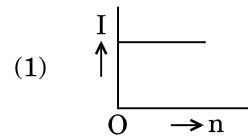
**159.**  $(47 \pm 4.7) \text{ k}\Omega$  ର ଏକ କାର୍ବନ ପ୍ରତିରୋଧକକୁ ଚିହ୍ନିତ କରିବା ପାଇଁ ବିଭିନ୍ନ ରଙ୍ଗର ଗୋଲାକାର ଦାଗ ଦିଆଯିବା ଦରକାର । ରଙ୍ଗ ସଙ୍କେତର ଅନୁକ୍ରମଟି ହେବ

- (1) ବାଇଗଣୀ – ହଳଦିଆ – କମଳା – ରୌପ୍ୟ
- (2) ସବୁଜ – କମଳା – ବାଇଗଣୀ – ସ୍ୱର୍ଣ୍ଣ
- (3) ହଳଦିଆ – ସବୁଜ – ବାଇଗଣୀ – ସ୍ୱର୍ଣ୍ଣ
- (4) ହଳଦିଆ – ବାଇଗଣୀ – କମଳା – ରୌପ୍ୟ

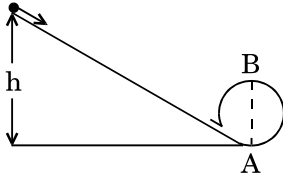
**160.** 'n' ସଂଖ୍ୟକ ସମାନ ପ୍ରତିରୋଧକ ଗୁଡ଼ିକ, ପ୍ରତ୍ୟେକର ମୂଲ୍ୟ 'R' ଥାଇ, ବିଦ୍ୟୁତ୍ ବାହକ ବଳ (emf), 'E' ଓ ଆଭ୍ୟନ୍ତରୀଣ ପ୍ରତିରୋଧ 'R' ରେ ଏକ ବ୍ୟାଟେରୀ ସହ ଶ୍ରେଣୀରେ ସଂଯୋଗ କରାଗଲେ । ସେଥିରୁ I ପରିମାଣର ବିଦ୍ୟୁତ୍ ସ୍ରୋତ ବାହାରିଲା । ବର୍ତ୍ତମାନ ସେହି 'n' ସଂଖ୍ୟକ ପ୍ରତିରୋଧକ ବ୍ୟାଟେରୀ ସହିତ ସମାନ୍ତରାଳରେ ସଂଯୋଗ କରାଗଲା । ବ୍ୟାଟେରୀ ଦ୍ୱାରା 10 I ପରିମାଣର ବିଦ୍ୟୁତ୍ ସ୍ରୋତ ବାହାରିଲା । ତାହାହେଲେ 'n'ର ମୂଲ୍ୟ ହେବ ।

- (1) 10
- (2) 9
- (3) 20
- (4) 11

**161.** ଏକ ବ୍ୟାଟେରୀରେ ଏକାପରିଦେଖାଯାଉଥିବା 'n' ସଂଖ୍ୟକ ପରିବର୍ତ୍ତିତ ସେଲ୍ (ପ୍ରତ୍ୟେକର ଆଭ୍ୟନ୍ତରୀଣ ପ୍ରତିରୋଧ 'r') ଶ୍ରେଣୀରେ ସଂଯୋଗ ହେଲେ । ବ୍ୟାଟେରୀର ଦୁଇଟିଯାକ ପ୍ରାନ୍ତ ବିଦ୍ୟୁତ୍ ପରିପଥରୁ ବିଦ୍ୟୁତ୍ ପ୍ରବାହରେ ବ୍ୟାଘାତ ସୃଷ୍ଟିକରାଇ ବିଦ୍ୟୁତ୍ ସ୍ରୋତ I ମପାଗଲା । କେଉଁ ଗ୍ରାଫ୍ଟି I ଓ n ଭିତରେ ଠିକ୍ ସମ୍ପର୍କଟି ଦେଖାଏ ?



162. A body initially at rest and sliding along a frictionless track from a height  $h$  (as shown in the figure) just completes a vertical circle of diameter  $AB = D$ . The height  $h$  is equal to



- (1)  $\frac{3}{2}D$
- (2)  $\frac{5}{4}D$
- (3)  $\frac{7}{5}D$
- (4)  $D$

163. Three objects, A : (a solid sphere), B : (a thin circular disk) and C : (a circular ring), each have the same mass  $M$  and radius  $R$ . They all spin with the same angular speed  $\omega$  about their own symmetry axes. The amounts of work ( $W$ ) required to bring them to rest, would satisfy the relation

- (1)  $W_C > W_B > W_A$
- (2)  $W_A > W_C > W_B$
- (3)  $W_B > W_A > W_C$
- (4)  $W_A > W_B > W_C$

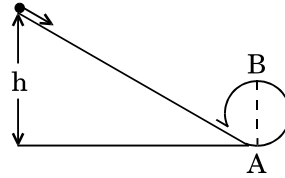
164. Which one of the following statements is *incorrect* ?

- (1) Rolling friction is smaller than sliding friction.
- (2) Coefficient of sliding friction has dimensions of length.
- (3) Frictional force opposes the relative motion.
- (4) Limiting value of static friction is directly proportional to normal reaction.

165. A moving block having mass  $m$ , collides with another stationary block having mass  $4m$ . The lighter block comes to rest after collision. When the initial velocity of the lighter block is  $v$ , then the value of coefficient of restitution ( $e$ ) will be

- (1) 0.5
- (2) 0.4
- (3) 0.8
- (4) 0.25

162. ବସ୍ତୁଟିଏ ପ୍ରାଥମିକ ଅବସ୍ଥାରେ ଛ୍ଟିର ରହି  $h$  ଉଚ୍ଚତାରୁ ଏକ ଘର୍ଷଣ ବିହୀନ ମାର୍ଗରେ ଖସିଲା । ଯାହାଦ୍ୱାରା ସେ ଏକ ଭୂଲମ୍ବୀୟ ବୃତ୍ତର ବ୍ୟାସ  $AB = D$  ରେ ଠିକ୍ ସମ୍ପୂର୍ଣ୍ଣ କଲା । ଉଚ୍ଚତା  $h$  କାହାସହ ସମାନ ହେବ ?



- (1)  $\frac{3}{2}D$
- (2)  $\frac{5}{4}D$
- (3)  $\frac{7}{5}D$
- (4)  $D$

163. ତିନୋଟି ବସ୍ତୁ, A : (ଏକ କଠିନ ଗୋଲକ), B : (ଏକ ବୃତ୍ତାକାର ଡିସ୍କ) ଓ C : (ଏକ ବୃତ୍ତାକାର ରିଙ୍ଗ) । ପ୍ରତ୍ୟେକ ସମାନ ବସ୍ତୁର  $M$  ଓ ବ୍ୟାସାର୍ଦ୍ଧ  $R$  ଅଟେ । ସେମାନେ  $\omega$  କୌଣସି ବୈଗରେ ସେମାନଙ୍କର ଅକ୍ଷ ଚାରିପଟେ ପ୍ରତିସାମ୍ୟ ରକ୍ଷାକରି ଘୂରୁଛନ୍ତି । ସେମାନଙ୍କୁ ଲାଗିଲେ । ସେମାନଙ୍କୁ ବିଶ୍ରାମ ଅବସ୍ଥାକୁ ଆଣିବା ପାଇଁ କେତେପରିମାଣରେ କାର୍ଯ୍ୟ ( $W$ ) କରିବାକୁ ଦରକାର । କେଉଁ ସମ୍ପର୍କଟି ସତ୍ୟ କରୁଛି ?

- (1)  $W_C > W_B > W_A$
- (2)  $W_A > W_C > W_B$
- (3)  $W_B > W_A > W_C$
- (4)  $W_A > W_B > W_C$

164. ନିମ୍ନଲିଖିତ କେଉଁ ଉକ୍ତିଟି ଭୁଲ ?

- (1) ଗଡାଣିଆ ଘର୍ଷଣ ଖସତା ଘର୍ଷଣ ଠାରୁ କମ୍ ।
- (2) ଖସତା ଘର୍ଷଣର ଧୁବାଙ୍କ ଓ ଦୈର୍ଘ୍ୟରେ ବିନିତ ସମାନ ଅଟେ ।
- (3) ଘର୍ଷଣବଳ ଆପେକ୍ଷିକ ଗତିକୁ ବିରୋଧ କରେ ।
- (4) ଛ୍ଟିର ଚରମ ଘର୍ଷଣର ମୂଲ୍ୟ ଉର୍ଦ୍ଧ୍ୱପ୍ରତିକ୍ରିୟା ସହିତ ସମାନୁପାତୀ ।

165.  $m$  ବସ୍ତୁରୁଥବା ଏକ ଗତିଶୀଳ ବ୍ଲକ୍  $4m$  ବସ୍ତୁରୁରେ ଛ୍ଟିର ଅବସ୍ଥାରେ ଥିବା ଅନ୍ୟଏକ ବ୍ଲକ୍ ସହ ଧକ୍କା ଖାଇଲା । ଧକ୍କା ଖାଇବାପରେ ହାଲ୍‌କା ବ୍ଲକ୍ଟି ବିଶ୍ରାମ ଅବସ୍ଥାକୁ ଆସିଲା । ଯଦି ହାଲ୍‌କା ବ୍ଲକ୍ଟିର ପ୍ରାଥମିକ ପରିବେଗ  $v$  ହୁଏ, ତାହାହେଲେ ପ୍ରତ୍ୟର୍ପଣର ଧୁବାଙ୍କ ( $e$ ) ହେବ

- (1) 0.5
- (2) 0.4
- (3) 0.8
- (4) 0.25

166. An em wave is propagating in a medium with a velocity  $\vec{V} = V\hat{i}$ . The instantaneous oscillating electric field of this em wave is along +y axis. Then the direction of oscillating magnetic field of the em wave will be along

- (1) - z direction
- (2) - x direction
- (3) - y direction
- (4) + z direction

167. The refractive index of the material of a prism is  $\sqrt{2}$  and the angle of the prism is  $30^\circ$ . One of the two refracting surfaces of the prism is made a mirror inwards, by silver coating. A beam of monochromatic light entering the prism from the other face will retrace its path (after reflection from the silvered surface) if its angle of incidence on the prism is

- (1)  $60^\circ$
- (2) zero
- (3)  $30^\circ$
- (4)  $45^\circ$

168. The magnetic potential energy stored in a certain inductor is 25 mJ, when the current in the inductor is 60 mA. This inductor is of inductance

- (1) 0.138 H
- (2) 13.89 H
- (3) 1.389 H
- (4) 138.88 H

169. An object is placed at a distance of 40 cm from a concave mirror of focal length 15 cm. If the object is displaced through a distance of 20 cm towards the mirror, the displacement of the image will be

- (1) 30 cm away from the mirror
- (2) 36 cm towards the mirror
- (3) 30 cm towards the mirror
- (4) 36 cm away from the mirror

166. ଏକ ବିଦ୍ୟୁତ୍ ଚୁମ୍ବକୀୟ ତରଙ୍ଗ ଏକ ମାଧ୍ୟମରେ  $\vec{V} = V\hat{i}$  ପରିବେଗରେ ପ୍ରସାରିତ ହେଉଅଛି । ତତ୍ସମ୍ପର୍କରେ ଦୋଳିତ ହେଉଥିବା ଏହି ବିଦ୍ୟୁତ୍ ଚୁମ୍ବକୀୟ ତରଙ୍ଗର ବୈଦ୍ୟୁତିକ କ୍ଷେତ୍ର + y ଅକ୍ଷଦିଗରେ ହୁଏ । ତାହାହେଲେ ଦୋଳିତ ହେଉଥିବା ଏହି ବିଦ୍ୟୁତ୍ ଚୁମ୍ବକୀୟ ତରଙ୍ଗର ଚୁମ୍ବକୀୟ କ୍ଷେତ୍ରର ଦିଗଟି ହେବ ।

- (1) - z ଦିଗରେ
- (2) - x ଦିଗରେ
- (3) - y ଦିଗରେ
- (4) + z ଦିଗରେ

167. ଏକ ପ୍ରିଜମର ପ୍ରତିସରଣାଙ୍କ  $\sqrt{2}$  ଓ କୋଣ  $30^\circ$  ଅଟେ । ପ୍ରିଜମର ଦୁଇଟି ପ୍ରତିସରିତ ପୃଷ୍ଠରୁ ଗୋଟିଏ ପୃଷ୍ଠରେ ସିଲ୍ଭର ପ୍ରଲେପଦେଇ ଏହାକୁ ଭିତ୍ତୁଆ ଦର୍ପଣ ଭାବରେ ତିଆରି କରାଯାଇଛି । ଏକ ଏକରଙ୍ଗୀ ଆଲୋକଗୁଚ୍ଛ ପ୍ରିଜମର ଅନ୍ୟ ପୃଷ୍ଠରେ ପ୍ରବେଶକରି, ସେହିଦିଗରେ ଫେରିଯିବ । (ସିଲ୍ଭର ପୃଷ୍ଠରେ ପ୍ରତିସରଣ ପରେ) ପ୍ରିଜମଟି ଉପରେ ଆପତନ କୋଣ କେତେହେବା ଦରକାର ?

- (1)  $60^\circ$
- (2) ଶୂନ୍ୟ
- (3)  $30^\circ$
- (4)  $45^\circ$

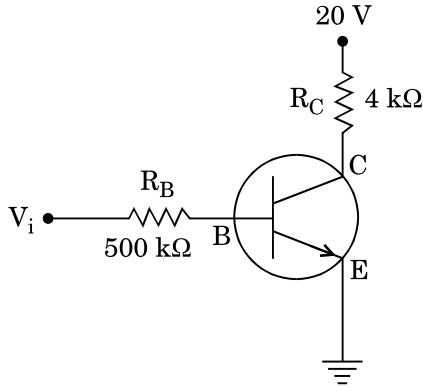
168. ଯେତେବେଳେ ଏକ ପ୍ରଶୋଦକରେ 60 mA ର ବିଦ୍ୟୁତ୍ପ୍ରୋତ ପ୍ରବାହିତ ହୁଏ, ସେଥିରେ 25 mJ ର ଚୁମ୍ବକୀୟ ଶ୍ଳିଷ୍ଟିଶକ୍ତି ଗଠିତ ହୋଇ ରହେ । ଏହି ପ୍ରଶୋଦକର ପ୍ରଶୋଦକତା ହେବ

- (1) 0.138 H
- (2) 13.89 H
- (3) 1.389 H
- (4) 138.88 H

169. 15 cm ଫୋକସ୍ ଦୈର୍ଘ୍ୟର ଏକ ଅବତଳ ଦର୍ପଣଠାରୁ ବସ୍ତୁଟିଏ 40 cm ଦୂରତାରେ ରଖାଗଲା । ଯଦି ବସ୍ତୁଟିକୁ ଦର୍ପଣଆଡ଼କୁ 20 cm ଘୁଞ୍ଚାଯାଏ, ତାହାହେଲେ ପ୍ରତିବିମ୍ବଟି କିପରି ଘୁଞ୍ଚିବ ?

- (1) ଦର୍ପଣଠାରୁ 30 cm ଦୂରେଇଯିବ
- (2) ଦର୍ପଣ ଆଡ଼କୁ 36 cm
- (3) ଦର୍ପଣ ଆଡ଼କୁ 30 cm
- (4) ଦର୍ପଣଠାରୁ 36 cm ଦୂରେଇଯିବ

170. In the circuit shown in the figure, the input voltage  $V_i$  is 20 V,  $V_{BE} = 0$  and  $V_{CE} = 0$ . The values of  $I_B$ ,  $I_C$  and  $\beta$  are given by

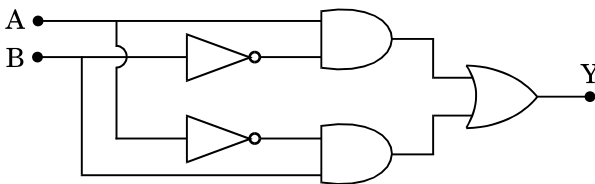


- (1)  $I_B = 40 \mu\text{A}$ ,  $I_C = 10 \text{ mA}$ ,  $\beta = 250$
- (2)  $I_B = 40 \mu\text{A}$ ,  $I_C = 5 \text{ mA}$ ,  $\beta = 125$
- (3)  $I_B = 20 \mu\text{A}$ ,  $I_C = 5 \text{ mA}$ ,  $\beta = 250$
- (4)  $I_B = 25 \mu\text{A}$ ,  $I_C = 5 \text{ mA}$ ,  $\beta = 200$

171. In a p-n junction diode, change in temperature due to heating

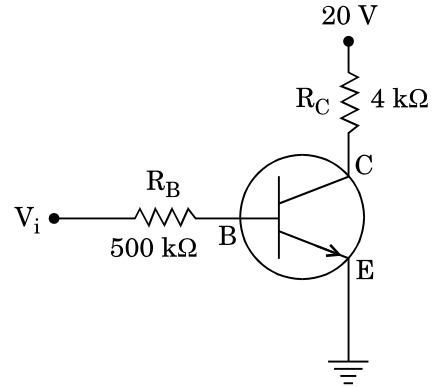
- (1) affects only reverse resistance
- (2) affects the overall V – I characteristics of p-n junction
- (3) does not affect resistance of p-n junction
- (4) affects only forward resistance

172. In the combination of the following gates the output Y can be written in terms of inputs A and B as



- (1)  $\overline{A \cdot B}$
- (2)  $\overline{A + B}$
- (3)  $\overline{A \cdot B} + A \cdot B$
- (4)  $A \cdot \overline{B} + \overline{A} \cdot B$

170. ଚିତ୍ରରେ ଦର୍ଶାଯାଇଥିବା ଅନୁସାରେ ଏକ ପରିପଥର ଅନ୍ତଃ ଭୋଲଟେଜ୍ ( $V_i$ ) ହେଉଛି 20 V,  $V_{BE} = 0$ ,  $V_{CE} = 0$  ।  $I_B$ ,  $I_C$  ଓ  $\beta$  ର ମୂଲ୍ୟ ହେବ

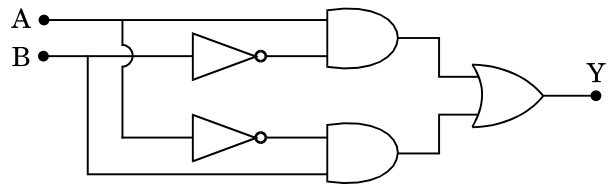


- (1)  $I_B = 40 \mu\text{A}$ ,  $I_C = 10 \text{ mA}$ ,  $\beta = 250$
- (2)  $I_B = 40 \mu\text{A}$ ,  $I_C = 5 \text{ mA}$ ,  $\beta = 125$
- (3)  $I_B = 20 \mu\text{A}$ ,  $I_C = 5 \text{ mA}$ ,  $\beta = 250$
- (4)  $I_B = 25 \mu\text{A}$ ,  $I_C = 5 \text{ mA}$ ,  $\beta = 200$

171. ଏକ p-n ସନ୍ଧି ତାହୋତ୍ତୁ, ଗରମ କରିବାରୁ ତାପମାତ୍ରାର ପରିବର୍ତ୍ତନ କଣ କରେ

- (1) ପଶ୍ଚାତ୍ ଦିଶିକ ପ୍ରତିରୋଧତା ଉପରେ ପ୍ରଭାବ ପକାଏ ।
- (2) p-n ସନ୍ଧିର V – I ଆଭିଲକ୍ଷଣରେ ପୁରାପୁରି ପ୍ରଭାବ ପକାଏ ।
- (3) p-n ସନ୍ଧିର ପ୍ରତିରୋଧତା ଉପରେ ପ୍ରଭାବ ପକାଏ ନାହିଁ ।
- (4) ଅଗ୍ରଦିଶିକ ପ୍ରତିରୋଧତା ଉପରେ ପ୍ରଭାବ ପକାଏ ।

172. ନିମ୍ନରେ ଦର୍ଶିତ ଗେଟ୍‌ରେ ଅନ୍ତଃନିବେଶ A ଓ B ପ୍ରକାରରେ, ବହିର୍ବେଶ Y କୁ ଲେଖାଯିବ

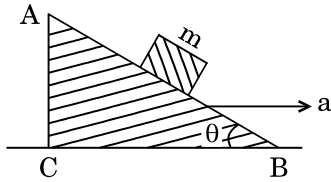


- (1)  $\overline{A \cdot B}$
- (2)  $\overline{A + B}$
- (3)  $\overline{A \cdot B} + A \cdot B$
- (4)  $A \cdot \overline{B} + \overline{A} \cdot B$

173. A toy car with charge  $q$  moves on a frictionless horizontal plane surface under the influence of a uniform electric field  $\vec{E}$ . Due to the force  $q\vec{E}$ , its velocity increases from 0 to 6 m/s in one second duration. At that instant the direction of the field is reversed. The car continues to move for two more seconds under the influence of this field. The average velocity and the average speed of the toy car between 0 to 3 seconds are respectively

- (1) 2 m/s, 4 m/s
- (2) 1.5 m/s, 3 m/s
- (3) 1 m/s, 3.5 m/s
- (4) 1 m/s, 3 m/s

174. A block of mass  $m$  is placed on a smooth inclined wedge ABC of inclination  $\theta$  as shown in the figure. The wedge is given an acceleration 'a' towards the right. The relation between  $a$  and  $\theta$  for the block to remain stationary on the wedge is



- (1)  $a = \frac{g}{\operatorname{cosec} \theta}$
- (2)  $a = g \tan \theta$
- (3)  $a = g \cos \theta$
- (4)  $a = \frac{g}{\sin \theta}$

175. A student measured the diameter of a small steel ball using a screw gauge of least count 0.001 cm. The main scale reading is 5 mm and zero of circular scale division coincides with 25 divisions above the reference level. If screw gauge has a zero error of -0.004 cm, the correct diameter of the ball is

- (1) 0.521 cm
- (2) 0.529 cm
- (3) 0.053 cm
- (4) 0.525 cm

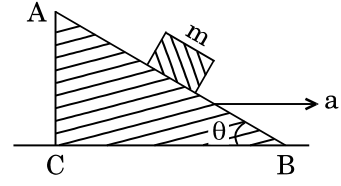
176. The moment of the force,  $\vec{F} = 4\hat{i} + 5\hat{j} - 6\hat{k}$  at (2, 0, -3), about the point (2, -2, -2), is given by

- (1)  $-8\hat{i} - 4\hat{j} - 7\hat{k}$
- (2)  $-7\hat{i} - 4\hat{j} - 8\hat{k}$
- (3)  $-7\hat{i} - 8\hat{j} - 4\hat{k}$
- (4)  $-4\hat{i} - \hat{j} - 8\hat{k}$

173. ଏକ ଖେଳନାକାର୍  $q$  ଚାର୍ଜ ବହନ କରି ଏକ ଘର୍ଷଣବିହୀନ ଭୂସମାନ୍ତର ସମତଳ ପୃଷ୍ଠରେ, ସମବୈଦ୍ୟୁତିକ କ୍ଷେତ୍ର  $\vec{E}$  ପ୍ରଭାବରେ ଗତିକଲା । ଏକ ସେକେଣ୍ଡ ବ୍ୟବଧାନରେ  $q\vec{E}$  ବଳଯୋଗୁ ଏହାର ପରିବେଗ 0 ରୁ 6 m/s କୁ ବୃଦ୍ଧିହେଲା । ଠିକ୍ ସେହି ସମୟରେ କ୍ଷେତ୍ରଟିର ଦିଗ ଓଲଟିଗଲା । ଏହି କ୍ଷେତ୍ର ପ୍ରଭାବରେ କାର୍ ଥିବା ଦୁଇ ସେକେଣ୍ଡ ପାଇଁ ଗତିକଲା । 0 ରୁ 3 ସେକେଣ୍ଡ ମଧ୍ୟରେ ଖେଳନାକାର ହାରାହାରି ପରିବେଗ ଓ ହାରାହାରି ବେଗ ହେବ

- (1) 2 m/s, 4 m/s
- (2) 1.5 m/s, 3 m/s
- (3) 1 m/s, 3.5 m/s
- (4) 1 m/s, 3 m/s

174. ଚିତ୍ରରେ ଦର୍ଶାଯାଇଥିବା ଅନୁଯାୟୀ ଏକ ଆନତ ମସୃଣ ଠ ସମତଳର କଳା ABC ରେ  $m$  ବସ୍ତୁତ୍ଵର ଏକ ବ୍ଲକ୍ ରଖାଗଲା । କଳାଟିକୁ ଡାହାଣ ଆଡ଼କୁ 'a' ଦ୍ଵାରା ଦିଆଗଲା । କଳା ଉପରେ ବ୍ଲକ୍ ଥିବାର ରହିବାପାଇଁ a ଏବଂ  $\theta$  ମଧ୍ୟରେ ଥିବା ସମ୍ପର୍କଟି ହେବ ।



- (1)  $a = \frac{g}{\operatorname{cosec} \theta}$
- (2)  $a = g \tan \theta$
- (3)  $a = g \cos \theta$
- (4)  $a = \frac{g}{\sin \theta}$

175. ସ୍କ୍ରୁ ଗଜ୍ କୁ ବ୍ୟବହାର କରି ଛାତ୍ରଟିଏ ଏକ କ୍ଷୁଦ୍ର ଲୁହା ବଲର ବ୍ୟାସ ମାପିଲା । ସ୍କ୍ରୁ ଗଜ୍ ର ଲିଷ୍ଟକାଉଣ୍ଡ 0.001 cm ମେନ୍ ସ୍କେଲ୍ ପାଠ୍ୟାଙ୍କ ହେଉଛି 5 mm । ନିର୍ଦ୍ଧାରିତ ସ୍ତରରୁ 25 ଟି ବିଭାଗ ଉପରେ ସାର୍କୁଲାର ସ୍କେଲର ଶୂନ୍ ପାଠ୍ୟାଙ୍କ ମେଳନ ଖାଇଲା । ଯଦି ସ୍କ୍ରୁ ଗଜ୍ ର ଶୂନ୍ୟତ୍ରୁଟି - 0.004 cm ହୁଏ, ତାହାହେଲେ ବଲ୍ ଠିକ୍ ବ୍ୟାସଟି ହେବ ।

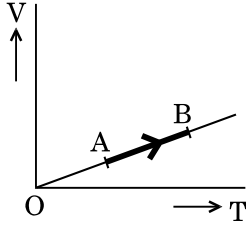
- (1) 0.521 cm
- (2) 0.529 cm
- (3) 0.053 cm
- (4) 0.525 cm

176. (2, 0, -3) ବିନ୍ଦୁରେ ବଳ  $\vec{F} = 4\hat{i} + 5\hat{j} - 6\hat{k}$  ଅଟେ (2, -2, -2) ବିନ୍ଦୁରେ ବଳର ଆତ୍ମଶୁଣ୍ଠି ହେବ

- (1)  $-8\hat{i} - 4\hat{j} - 7\hat{k}$
- (2)  $-7\hat{i} - 4\hat{j} - 8\hat{k}$
- (3)  $-7\hat{i} - 8\hat{j} - 4\hat{k}$
- (4)  $-4\hat{i} - \hat{j} - 8\hat{k}$



177. The volume ( $V$ ) of a monatomic gas varies with its temperature ( $T$ ), as shown in the graph. The ratio of work done by the gas, to the heat absorbed by it, when it undergoes a change from state A to state B, is



- (1)  $\frac{2}{5}$   
 (2)  $\frac{2}{7}$   
 (3)  $\frac{1}{3}$   
 (4)  $\frac{2}{3}$

178. The fundamental frequency in an open organ pipe is equal to the third harmonic of a closed organ pipe. If the length of the closed organ pipe is 20 cm, the length of the open organ pipe is

- (1) 13.2 cm  
 (2) 16 cm  
 (3) 12.5 cm  
 (4) 8 cm

179. The efficiency of an ideal heat engine working between the freezing point and boiling point of water, is

- (1) 26.8%  
 (2) 12.5%  
 (3) 6.25%  
 (4) 20%

180. At what temperature will the rms speed of oxygen molecules become just sufficient for escaping from the Earth's atmosphere?

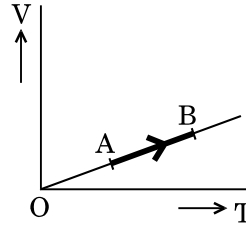
(Given :

Mass of oxygen molecule ( $m$ ) =  $2.76 \times 10^{-26}$  kg

Boltzmann's constant  $k_B = 1.38 \times 10^{-23}$  J K<sup>-1</sup>)

- (1)  $2.508 \times 10^4$  K  
 (2)  $1.254 \times 10^4$  K  
 (3)  $5.016 \times 10^4$  K  
 (4)  $8.360 \times 10^4$  K

177. ଗ୍ରାଫରେ ଦର୍ଶାଯାଇଥିବା ଅନୁଯାୟୀ ଏକ ଏକପରମାଣୁକ ଗ୍ୟାସର ଆୟତନ ( $V$ ), ତାପମାତ୍ରା ( $T$ ) ଅନୁସାରେ ପରିବର୍ତ୍ତନ ହୁଏ । ଯେତେବେଳେ ଏହା ପରିସ୍ଥିତି A ରୁ ପରିସ୍ଥିତି B କୁ ପରିବର୍ତ୍ତନ ହୁଏ, ଗ୍ୟାସଦ୍ୱାରା କାର୍ଯ୍ୟସାଧନ ଓ ଏହାଦ୍ୱାରା ତାପ ଶୋଷଣର ଅନୁପାତ ହେବ ।



- (1)  $\frac{2}{5}$   
 (2)  $\frac{2}{7}$   
 (3)  $\frac{1}{3}$   
 (4)  $\frac{2}{3}$

178. ଏକ ଖୋଲା ଅର୍ଗାନ ପାଇପର ମୌଳିକ ଆବୃତ୍ତି ଏକ ନିବୁଜ ଅର୍ଗାନ ପାଇପର ତୃତୀୟ ହାର୍ମୋନିକ ସହ ସମାନ । ଯଦି ନିବୁଜ ଅର୍ଗାନ ପାଇପର ଦୈର୍ଘ୍ୟ 20 cm ହୁଏ, ତାହାହେଲେ ଖୋଲା ଅର୍ଗାନପାଇପର ଦୈର୍ଘ୍ୟ ହେବ ।

- (1) 13.2 cm  
 (2) 16 cm  
 (3) 12.5 cm  
 (4) 8 cm

179. ଜଳର ହିମାଙ୍କ ଓ ସ୍ଫୁଟନାଙ୍କ ମଧ୍ୟରେ କାର୍ଯ୍ୟକରୁଥିବା ଏକ ଆଦର୍ଶ ତାପୀୟ ଇଞ୍ଜିନ୍ର ଦକ୍ଷତା ହେବ

- (1) 26.8%  
 (2) 12.5%  
 (3) 6.25%  
 (4) 20%

180. କେତେ ତାପମାତ୍ରାରେ, ଅମ୍ଳଜାନ ପରମାଣୁମାନଙ୍କର ମୂଳ-ମାଧ୍ୟ-ବର୍ଗ ବେଗ (rms), ପୃଥିବୀ ପୃଷ୍ଠରୁ ଠିକ ଉପରକୁ ଉଠିବାକୁ ଯଥେଷ୍ଟ ହେବ ।

(ଦିଆଯାଇଛି :

ଅମ୍ଳଜାନ ପରମାଣୁର ବସ୍ତୁତ୍ୱ ( $m$ ) =  $2.76 \times 10^{-26}$  kg

ବୋଲ୍ଟଜମାନଙ୍କ ଗୁଣାଙ୍କ  $k_B = 1.38 \times 10^{-23}$  J K<sup>-1</sup>)

- (1)  $2.508 \times 10^4$  K  
 (2)  $1.254 \times 10^4$  K  
 (3)  $5.016 \times 10^4$  K  
 (4)  $8.360 \times 10^4$  K

# **SPACE FOR ROUGH WORK**

# SPACE FOR ROUGH WORK

**Read carefully the following instructions :**

1. Each candidate must show on demand his/her Admit Card to the Invigilator.
2. No candidate, without special permission of the Superintendent or Invigilator, would leave his/her seat.
3. The candidates should not leave the Examination Hall without handing over their Answer Sheet to the Invigilator on duty and sign the Attendance Sheet twice. **Cases where a candidate has not signed the Attendance Sheet second time will be deemed not to have handed over the Answer Sheet and dealt with as an unfair means case.**
4. Use of Electronic/Manual Calculator is prohibited.
5. The candidates are governed by all Rules and Regulations of the examination with regard to their conduct in the Examination Hall. All cases of unfair means will be dealt with as per Rules and Regulations of this examination.
6. No part of the Test Booklet and Answer Sheet shall be detached under any circumstances.
7. The candidates will write the Correct Test Booklet Code as given in the Test Booklet/Answer Sheet in the Attendance Sheet.

**ନିମ୍ନଲିଖିତ ନିର୍ଦ୍ଦେଶାବଳୀକୁ ଧ୍ୟାନ ସହିତ ପଢ଼ :**

1. ନିରୀକ୍ଷକଙ୍କ ଦ୍ୱାରା ଦାବି କରାଗଲେ ପ୍ରତ୍ୟେକ ପ୍ରାର୍ଥୀଙ୍କୁ ନିଜ ନିଜର ପ୍ରବେଶ ପତ୍ର ବାଧ୍ୟତାମୂଳକ ଭାବେ ପ୍ରଦର୍ଶନ କରିବାକୁ ହେବ ।
2. ଅଧୀକ୍ଷକ କିମ୍ବା ନିରୀକ୍ଷକଙ୍କ ସ୍ୱତନ୍ତ୍ର ଅନୁମତି ବିନା କୌଣସି ପ୍ରାର୍ଥୀ ସେମାନଙ୍କର ଆସନ ଛାଡ଼ିପାରିବେ ନାହିଁ ।
3. କର୍ତ୍ତବ୍ୟରତ ନିରୀକ୍ଷକଙ୍କୁ ଉତ୍ତର ପତ୍ର ହସ୍ତାନ୍ତର ନ କରି ଏବଂ ଉପସ୍ଥିତି ପତ୍ରରେ ଦୁଇଥର ସ୍ୱାକ୍ଷର ନ କରି ପ୍ରାର୍ଥୀ ପରୀକ୍ଷା ହଲରୁ ବାହାରି ପାରିବେ ନାହିଁ । ଯଦି କୌଣସି କ୍ଷେତ୍ରରେ ପ୍ରାର୍ଥୀ ଉପସ୍ଥିତି ଫର୍ମରେ ଦ୍ୱିତୀୟ ଥର ପାଇଁ ସ୍ୱାକ୍ଷର କରି ନ ଥାନ୍ତି ତେବେ ଏହା ଧରି ନିଆଯିବ ଯେ ସେ ଉତ୍ତର ପତ୍ର ଫେରାଇନାହାନ୍ତି ଏବଂ ଏହାକୁ ଏକ ଅସାଧୁ ଉପାୟ ଅବଲମ୍ବନ ମାମଲା ଭାବେ ବିବେଚନା କରାଯିବ ।
4. ଇଲେକ୍ଟ୍ରୋନିକ୍/ମାନୁଆଲ୍ କାଲ୍କୁଲେଟରର ପ୍ରୟୋଗ ନିଷେଧ ।
5. ପରୀକ୍ଷା ହଲରେ ସେମାନଙ୍କ ଆଚରଣ ପ୍ରସଙ୍ଗରେ ପ୍ରାର୍ଥୀମାନେ ପରୀକ୍ଷାର ସମସ୍ତ ନିୟମାବଳୀ ଓ ବ୍ୟବସ୍ଥାପନ ଦ୍ୱାରା ଅନୁଶାସିତ ହେବେ। ସମସ୍ତ ଅସାଧୁ ଉପାୟ ଅବଲମ୍ବନ ମାମଲା ଉପରେ ପରୀକ୍ଷାର ନିୟମାବଳୀ ଓ ବ୍ୟବସ୍ଥାପନ ଅନୁଯାୟୀ କାର୍ଯ୍ୟାନୁଷ୍ଠାନ ଗ୍ରହଣ କରାଯିବ ।
6. ପରୀକ୍ଷା ପୁସ୍ତକ ଏବଂ ଉତ୍ତର ପତ୍ରର କୌଣସି ଅଂଶକୁ କୌଣସି ପରିସ୍ଥିତିରେ ମଧ୍ୟ ଅଲଗା କରାଯାଇପାରିବ ନାହିଁ ।
7. ପ୍ରାର୍ଥୀମାନଙ୍କୁ ପରୀକ୍ଷା ପୁସ୍ତକ/ଉତ୍ତର ପତ୍ରରେ ଦିଆଯାଇଥିବା ପୁସ୍ତକ କୋଡ୍‌କୁ ଠିକ୍ ଭାବେ ଉପସ୍ଥିତି ପତ୍ରରେ ଲେଖିବାକୁ ହେବ ।