

National Testing Agency

Question Paper Name: 98 Percussion Instruments 19th Dec S1 Set 2
Subject Name: 98 Percussion Instruments
Creation Date: 2018-12-19 17:19:05
Duration: 180
Total Marks: 300
Display Marks: Yes
Share Answer Key With Delivery Engine: Yes
Actual Answer Key: Yes

Paper I

Group Number : 1
Group Id : 913943287
Group Maximum Duration : 60
Group Minimum Duration : 60
Revisit allowed for view? : No
Revisit allowed for edit? : No
Break time: 30
Mandatory Break time: Yes
Group Marks: 100

00 General Aptitude

Section Id : 913943287
Section Number : 1
Section type : Online
Mandatory or Optional: Mandatory
Number of Questions: 42
Number of Questions to be attempted: 42
Section Marks: 100
Display Number Panel: Yes
Group All Questions: No

Sub-Section Number: 1
Sub-Section Id: 9139431169
Question Shuffling Allowed : Yes

Question Number : 1 Question Id : 91394321845 Question Type : MCQ Option Shuffling : Yes Display Question Number : Yes
Single Line Question Option : No Option Orientation : Vertical
Correct Marks : 2 Wrong Marks : 0

In the following list identify these statements which are indicative of helping behaviour of effective teaching. Select from the code to give your answer.

- (a) Instructional variety marked by multiple devices used.
- (b) Using the ideas of students while making presentations.
- (c) Student's success rate as evident in correctly understanding the assignments.
- (d) Engagement in learning tasks.
- (e) Teacher affect as manifest in relations with students.
- (f) Probing to add and seek classifications of ideas.

Code :

Options :

91394385801. (b), (e) and (f)

91394385802. (a), (b) and (c)

91394385803. (d), (e) and (a)

91394385804. (b), (c) and (d)

Question Number : 1 Question Id : 91394321845 Question Type : MCQ Option Shuffling : Yes Display Question Number : Yes
Single Line Question Option : No Option Orientation : Vertical

Correct Marks : 2 Wrong Marks : 0

निम्नांकित सूची में उन कथनों की पहचान करें जो प्रभावी शिक्षण के सहायक व्यवहार को दर्शाते हैं। कूट में से सही उत्तर चुनें।

- (a) प्रयुक्त विविध प्रविधियों वाली अनुदेशात्मक विविधता।
- (b) प्रस्तुति करते समय छात्रों के विचारों का प्रयोग करना।
- (c) छात्र की सफलता दर जो कार्य की सही समझ में प्रदर्शित होती है।
- (d) अधिगम कार्य में संलग्नता।
- (e) छात्रों के साथ संबंध में प्रदर्शित शिक्षक प्रभाव।
- (f) विचारों की स्पष्टता प्राप्त करने के उद्देश्य से जाँच-परख।

कूट :

Options :

91394385801. (b), (e) और (f)

91394385802. (a), (b) और (c)

(d), (e) और (a)

91394385803.

(b), (c) और (d)

91394385804.

**Question Number : 2 Question Id : 91394321846 Question Type : MCQ Option Shuffling : Yes Display Question Number : Yes
Single Line Question Option : No Option Orientation : Vertical**

Correct Marks : 2 Wrong Marks : 0

From the list given below identify these statements which relate to the characteristics of a teaching act. Select from the code to indicate your answer.

- (a) Teaching is a personal act to facilitate self development.
- (b) The goal of all teaching is to cause learning.
- (c) Teaching invariably implies changing the opinion of others.
- (d) Teaching is triadic rather than dyadic in nature.
- (e) Teaching means selling ideas.
- (f) Teaching means reaching the mind of students.

Code :

Options :

(a), (b) and (c)

91394385805.

(c), (d) and (e)

91394385806.

(b), (d) and (f)

91394385807.

(f), (e) and (d)

91394385808.

**Question Number : 2 Question Id : 91394321846 Question Type : MCQ Option Shuffling : Yes Display Question Number : Yes
Single Line Question Option : No Option Orientation : Vertical**

Correct Marks : 2 Wrong Marks : 0

नीचे दी गई सूची में से उन कथनों की पहचान करें जो शिक्षण कार्य की विशेषता से संबंधित हैं। दिए गए कूट में से अपना उत्तर चुनें।

- (a) शिक्षण स्व:विकास को सुगम बनाने वाली एक वैयक्तिक गतिविधि है।
- (b) सभी शिक्षणों का ध्येय अधिगम कराना होता है।
- (c) व्यक्तियों के शिक्षण का निहितार्थ दूसरों का मत परिवर्तित करना है।
- (d) शिक्षण अपनी प्रकृति में द्विक होने की बजाये त्रिक है।
- (e) शिक्षण का अर्थ है विचारों का विक्रय।
- (f) शिक्षण का तात्पर्य छात्रों के मस्तिष्क तक पहुँचना है।

कूट :

Options :

91394385805. (a), (b) और (c)

91394385806. (c), (d) और (e)

91394385807. (b), (d) और (f)

91394385808. (f), (e) और (d)

Question Number : 3 Question Id : 91394321847 Question Type : MCQ Option Shuffling : Yes Display Question Number : Yes
Single Line Question Option : No Option Orientation : Vertical

Correct Marks : 2 Wrong Marks : 0

For promoting competence and excellence in and through education, which of the needs of Maslow's hierarchy has to be addressed ?

Options :

91394385809. Need for love and belongingness

91394385810. Need for self esteem

91394385811. Safety needs

91394385812. Need for self - actualization

Question Number : 3 Question Id : 91394321847 Question Type : MCQ Option Shuffling : Yes Display Question Number : Yes
Single Line Question Option : No Option Orientation : Vertical

Correct Marks : 2 Wrong Marks : 0

शिक्षण में, शिक्षण के माध्यम से सक्षमता और उत्कृष्टता को बढ़ावा देने के लिए मास्लो के पदानुक्रम की किन आवश्यकताओं को संतुष्ट किया जाना चाहिए?

Options :

प्रेम और अपनत्व की आवश्यकता

91394385809.

आत्म सम्मान की आवश्यकता

91394385810.

सुरक्षा की आवश्यकतायें

91394385811.

आत्म-सिद्धि की आवश्यकता

91394385812.

Question Number : 4 Question Id : 91394321848 Question Type : MCQ Option Shuffling : Yes Display Question Number : Yes
Single Line Question Option : No Option Orientation : Vertical

Correct Marks : 2 Wrong Marks : 0

Which of the following are hindering factors in effective teaching ? Select from the code to give your answer.

- (a) Teacher's self-efficacy.
- (b) Teacher's subject knowledge.
- (c) Low ability and willingness level of teacher.
- (d) Lack of planning and teaching skills in a teacher.
- (e) Teachers's mastery of linguistic skills.
- (f) Inappropriate body language of the teacher.

Code :

Options :

(c), (d) and (f)

91394385813.

(a), (e) and (c)

91394385814.

(b), (c) and (d)

91394385815.

(a), (c) and (f)

91394385816.

Question Number : 4 Question Id : 91394321848 Question Type : MCQ Option Shuffling : Yes Display Question Number : Yes
Single Line Question Option : No Option Orientation : Vertical

Correct Marks : 2 Wrong Marks : 0

निम्नांकित में से कौन प्रभावी शिक्षण में बाधक कारक हैं? कूट में से सही उत्तर चुनें :

- (a) शिक्षक की आत्म-सामर्थ्य
- (b) शिक्षक का विषय ज्ञान
- (c) शिक्षक की निम्न योग्यता और तत्परता
- (d) शिक्षक में नियोजन और शिक्षण कौशल का अभाव
- (e) भाषिक कौशलों पर शिक्षक की पकड़
- (f) शिक्षक की असंगत देह-भाषा

कूट :

Options :

(c), (d) और (f)

91394385813.

(a), (e) और (c)

91394385814.

(b), (c) और (d)

91394385815.

(a), (c) और (f)

91394385816.

Question Number : 5 Question Id : 91394321849 Question Type : MCQ Option Shuffling : Yes Display Question Number : Yes
Single Line Question Option : No Option Orientation : Vertical

Correct Marks : 2 Wrong Marks : 0

In the following characteristics of an evaluation procedure, identify those which describe formative assessment. Select from the code to indicate your answer.

- (a) Evaluation is a post instructional event.
- (b) Evaluation occurs during instruction.
- (c) Evaluation is carried out by policy makers.
- (d) Evaluation takes place periodically.
- (e) The aim of evaluation is to improve the process of teaching.
- (f) Evaluation is based on participation of students and teacher.

Code :

Options :

(a), (b) and (c)

91394385817.

(b), (c) and (d)

91394385818.

(b), (e) and (f)

91394385819.

(c), (d) and (f)

91394385820.

Question Number : 5 Question Id : 91394321849 Question Type : MCQ Option Shuffling : Yes Display Question Number : Yes
Single Line Question Option : No Option Orientation : Vertical

Correct Marks : 2 Wrong Marks : 0

मूल्यांकन प्रक्रिया की निम्नांकित विशेषताओं में से, निर्माणात्मक मूल्यांकन का वर्णन करने वाली विशेषताओं की पहचान करें। कूट में से सही उत्तर चुनें।

- (a) मूल्यांकन उत्तर-अनुदेशात्मक घटना है।
- (b) मूल्यांकन अनुदेश के दौरान घटित होता है।
- (c) मूल्यांकन का कार्य नीति-निर्माता करते हैं।
- (d) मूल्यांकन सावधिक रूप से घटित होता है।
- (e) मूल्यांकन का उद्देश्य शिक्षण प्रक्रिया में सुधार करना है।
- (f) मूल्यांकन छात्रों और शिक्षक की प्रतिभागिता पर आधारित होता है।

कूट :

Options :

91394385817. (a), (b) और (c)

91394385818. (b), (c) और (d)

91394385819. (b), (e) और (f)

91394385820. (c), (d) और (f)

Question Number : 6 Question Id : 91394321850 Question Type : MCQ Option Shuffling : Yes Display Question Number : Yes
Single Line Question Option : No Option Orientation : Vertical

Correct Marks : 2 Wrong Marks : 0

A researcher while writing his/her thesis does not give the rationale underlying use of statistical techniques. This will be best described as a case of :

Options :

91394385821. Ethical misconduct

91394385822. An error of omission

91394385823. An error of commission

Technical lapse

91394385824.

Question Number : 6 Question Id : 91394321850 Question Type : MCQ Option Shuffling : Yes Display Question Number : Yes
Single Line Question Option : No Option Orientation : Vertical

Correct Marks : 2 Wrong Marks : 0

अपना शोध-प्रबंध लिखते समय एक शोधार्थी सांख्यिकीय तकनीकों के अनुप्रयोग का तर्काधार नहीं बताता है, इसे निम्न में किसका उत्तम उदाहरण माना जाएगा ?

Options :

नैतिक कदाचार

91394385821.

भूल से हुई त्रुटि

91394385822.

जान-बूझ कर की गई त्रुटि

91394385823.

तकनीकी चूक

91394385824.

Question Number : 7 Question Id : 91394321851 Question Type : MCQ Option Shuffling : Yes Display Question Number : Yes
Single Line Question Option : No Option Orientation : Vertical

Correct Marks : 2 Wrong Marks : 0

In which type of research, the steps of research have to be cyclic ?

Options :

Grounded theory research

91394385825.

Action research

91394385826.

Experimental research

91394385827.

Case study research

91394385828.

Question Number : 7 Question Id : 91394321851 Question Type : MCQ Option Shuffling : Yes Display Question Number : Yes
Single Line Question Option : No Option Orientation : Vertical

Correct Marks : 2 Wrong Marks : 0

किस प्रकार के शोध में, शोध के चरणों को चक्रीय होना चाहिए ?

Options :

जमीनी सिद्धांत शोध

91394385825.

क्रियात्मक शोध

91394385826.

प्रायोगिक शोध

91394385827.

व्यष्टि अध्ययन शोध

91394385828.

Question Number : 8 Question Id : 91394321852 Question Type : MCQ Option Shuffling : Yes Display Question Number : Yes
Single Line Question Option : No Option Orientation : Vertical

Correct Marks : 2 Wrong Marks : 0

A researcher plans to study the effect of socio-economic status of parents on the school drop-out rate in a district. What type of research will it be ?

Options :

Hypothesis formulating research

91394385829.

Experimental hypothesis testing research

91394385830.

Non Experimental hypothesis testing research

91394385831.

Ethnographic research

91394385832.

Question Number : 8 Question Id : 91394321852 Question Type : MCQ Option Shuffling : Yes Display Question Number : Yes
Single Line Question Option : No Option Orientation : Vertical

Correct Marks : 2 Wrong Marks : 0

एक शोधार्थी किसी जिले में विद्यालय को बीच में छोड़ देने वाले छात्रों की दर पर अभिभावकों की सामाजिक-आर्थिक स्थिति के प्रभाव का अध्ययन करने की योजना बनाता है। यह किस प्रकार का शोध होगा ?

Options :

परिकल्पना निरूपण शोध

91394385829.

प्रायोगिक परिकल्पना परीक्षण शोध

91394385830.

गैर-प्रायोगिक परिकल्पना परीक्षण शोध

91394385831.

नृजातीय शोध

91394385832.

Question Number : 9 Question Id : 91394321853 Question Type : MCQ Option Shuffling : Yes Display Question Number : Yes
Single Line Question Option : No Option Orientation : Vertical

Correct Marks : 2 Wrong Marks : 0

Below are given a few key terms. Identify these which denote qualitative research paradigm.

- (a) Ex post facto method
- (b) Ethnography
- (c) Symbolic interaction
- (d) Descriptive survey
- (e) Narrative
- (f) Experimental method

Code :

Options :

91394385833. (a), (b) and (c)

91394385834. (d), (e) and (f)

91394385835. (a), (b) and (f)

91394385836. (b), (c) and (e)

Question Number : 9 Question Id : 91394321853 Question Type : MCQ Option Shuffling : Yes Display Question Number : Yes
Single Line Question Option : No Option Orientation : Vertical

Correct Marks : 2 Wrong Marks : 0

नीचे कुछ प्रमुख पद दिए गए हैं। उनकी पहचान करें जो गुणात्मक शोध प्रतिमान को प्रदर्शित करते हैं।

- (a) कार्योत्तर विधि
- (b) नृजाति विज्ञान
- (c) सांकेतिक अंतःक्रिया
- (d) विवरणात्मक सर्वेक्षण
- (e) वृतांत परक
- (f) प्रायोगिक विधि

कूट :

Options :

91394385833. (a), (b) और (c)

91394385834. (d), (e) और (f)

91394385835. (a), (b) और (f)

(b), (c) और (e)

91394385836.

Question Number : 10 Question Id : 91394321854 Question Type : MCQ Option Shuffling : Yes Display Question Number : Yes
Single Line Question Option : No Option Orientation : Vertical

Correct Marks : 2 Wrong Marks : 0

For which type of research, the action words - 'Control, manipulate and observe' are most relevant ?

Options :

91394385837. Action research

91394385838. Historical Research

91394385839. Experimental research

91394385840. Grounded theory approach based research

Question Number : 10 Question Id : 91394321854 Question Type : MCQ Option Shuffling : Yes Display Question Number : Yes
Single Line Question Option : No Option Orientation : Vertical

Correct Marks : 2 Wrong Marks : 0

किस प्रकार के शोध के लिए, क्रिया-सूचक शब्द 'नियंत्रण, हेर-फेर करना और अवलोकन' - सर्वाधिक प्रासंगिक हैं ?

Options :

91394385837. क्रियात्मक शोध

91394385838. ऐतिहासिक शोध

91394385839. प्रायोगिक शोध

91394385840. जमीनी सिद्धांत दृष्टिकोण आधारित शोध

Sub-Section Number: 2
Sub-Section Id: 9139431170
Question Shuffling Allowed : Yes

Question Id : 91394321855 Question Type : COMPREHENSION Sub Question Shuffling Allowed : Yes Group Comprehension
Questions : No

Question Numbers : (11 to 15)

Question Label : Comprehension

Read the passage carefully and answer the questions from 11 to 15.

Smart phones have grown in popularity over the last few years, and applications, or content, rest at the heart of this growth. Content has become more important than hardware and the quality of content is determined by creativity. Creativity emerges as seemingly disparate areas, such as education, industry, and culture. As a result, convergence of virtually all areas is receiving the spotlight today.

Convergence must also take place in the area of policy-making. Breaking down the walls between education and science and technology (S & T) universities and businesses and research and education, and convergence of these areas will bring about synergy and perhaps yield unexpected creative results. When education and S & T merge, one plus one can result in something greater than two. Convergence can take many forms : providing an education that develops divergent thinking and encourages creativity in students at an early age; developing human talents required by business by breaking down the barriers between universities and businesses, and sharing the assets of government funded research institutes with university students. These merges form the platforms for human creativity.

A nation can only become a world leader in S & T when its scientists are cultivated and allowed to research to their heart's content.

Sub questions

Question Number : 11 Question Id : 91394321856 Question Type : MCQ Option Shuffling : Yes Display Question Number : Yes
Single Line Question Option : No Option Orientation : Vertical

Correct Marks : 2 Wrong Marks : 0

According to the passage use of the smart phones has grown because of developments in :

Options :

91394385841. Technologies

91394385842. Researches

91394385843. Need for applications

91394385844. Interest of people

Question Number : 12 Question Id : 91394321857 Question Type : MCQ Option Shuffling : Yes Display Question Number : Yes
Single Line Question Option : No Option Orientation : Vertical

Correct Marks : 2 Wrong Marks : 0

In the view of the author of this passage, what determines the quality of content ?

Options :

91394385845. Prevailing traditions

91394385846. Areas of application

91394385847. Creativity and convergence factors

Areas of concern

91394385848.

Question Number : 13 Question Id : 91394321858 Question Type : MCQ Option Shuffling : Yes Display Question Number : Yes
Single Line Question Option : No Option Orientation : Vertical

Correct Marks : 2 Wrong Marks : 0

Unique results will flow owing to :

Options :

91394385849. Policy-making

91394385850. Creative results of synergy

91394385851. Removing the hindering factors between research and education

91394385852. Synergy

Question Number : 14 Question Id : 91394321859 Question Type : MCQ Option Shuffling : Yes Display Question Number : Yes
Single Line Question Option : No Option Orientation : Vertical

Correct Marks : 2 Wrong Marks : 0

On the basis of this passage, it can be stated that convergence is :

Options :

91394385853. A linear process developing in a sequential fashion

91394385854. A simple additive process to enhance power

91394385855. An interactive process centred on various elements

91394385856. A multifaceted interactive process

Question Number : 15 Question Id : 91394321860 Question Type : MCQ Option Shuffling : Yes Display Question Number : Yes
Single Line Question Option : No Option Orientation : Vertical

Correct Marks : 2 Wrong Marks : 0

Quality of research in a nation gets enhanced as a result of :

Options :

91394385857. Dedicated spirit of the researchers

91394385858. Hardwork of the researchers

Expert power of the researchers

91394385859.

Variety in researches

91394385860.

Question Id : 91394321855 Question Type : COMPREHENSION Sub Question Shuffling Allowed : Yes Group Comprehension Questions : No

Question Numbers : (11 to 15)

Question Label : Comprehension

निम्नांकित गद्यांश को सावधानीपूर्वक पढ़ें और प्रश्न 11 से 15 के उत्तर दें।

पिछले कुछ वर्षों में स्मार्ट फोन की लोकप्रियता काफी बढ़ी है और इसके मूल में उनका अनुप्रयोग अथवा प्रयोज्यता है। प्रयोज्यता हार्डवेयर से अधिक महत्वपूर्ण हो गई है और प्रयोज्यता की गुणवत्ता रचनात्मकता से निर्धारित होती है। रचनात्मकता जाहिर तौर पर असमान क्षेत्रों में उभरती है जैसे शिक्षा, उद्योग और संस्कृति। इसके परिणाम स्वरूप, आज लगभग सभी क्षेत्रों के सुसंयोजन पर जोर दिया जा रहा है।

सुसंयोजन नीति-निर्धारण के क्षेत्र में भी अवश्य होना चाहिए। शिक्षण और विज्ञान एवं प्रौद्योगिकी (एस एंड टी); विश्वविद्यालयों और व्यवसायों तथा शोध और शिक्षण के बीच की दीवार को तोड़ने एवं इन क्षेत्रों के सुसंयोजन से सुसंगति आएगी और संभवतः इसके अप्रत्याशित रचनात्मक नतीजे भी निकलेंगे। जब शिक्षा का विज्ञान एवं प्रौद्योगिकी से सम्मिलन होगा तो एक तथा एक का योग दो से ज्यादा होगा। यह सुसंयोजन कई स्वरूपों में हो सकता है : जैसे एक ऐसी शिक्षा प्रदान करना जो भिन्न सोच विकसित करती है और प्रारंभिक आयु में ही छात्रों की रचनात्मकता को प्रोत्साहित करती है; विश्वविद्यालय और व्यवसाय के बीच की दीवार को तोड़ते हुए व्यवसायों की आवश्यकतानुरूप मानव प्रतिभा विकसित करना तथा सरकार द्वारा वित्त-पोषित शोध संस्थानों की परिसंपत्तियों को विश्वविद्यालय के छात्रों के साथ साझा करना। इन सम्मिलनों से मानवीय रचनात्मकता को नया आयाम मिलेगा।

विज्ञान एवं प्रौद्योगिकी के क्षेत्र में कोई राष्ट्र तभी विश्व नेतृत्व प्रदान कर सकता है जब उसके वैज्ञानिक सम्बुद्ध हों तथा उन्हें अपने नैष्ठिक संकल्पों के अनुरूप शोध की स्वतंत्रता हो।

Sub questions

Question Number : 11 Question Id : 91394321856 Question Type : MCQ Option Shuffling : Yes Display Question Number : Yes Single Line Question Option : No Option Orientation : Vertical

Correct Marks : 2 Wrong Marks : 0

गद्यांश के अनुसार स्मार्ट फोन का प्रयोग निम्नांकित में से किस में विकास के कारण बढ़ा है?

Options :

प्रौद्योगिकियाँ

91394385841.

शोध

91394385842.

अनुप्रयोगों की आवश्यकता

91394385843.

लोक रुचि

91394385844.

Question Number : 12 Question Id : 91394321857 Question Type : MCQ Option Shuffling : Yes Display Question Number : Yes
Single Line Question Option : No Option Orientation : Vertical

Correct Marks : 2 Wrong Marks : 0

इस गद्यांश के लेखक के अनुसार, प्रयोज्यता की गुणवत्ता किससे निर्धारित होती है?

Options :

प्रचलित परंपराओं से

91394385845.

अनुप्रयोग के क्षेत्र से

91394385846.

रचनात्मकता और सुसंयोजन कारकों से

91394385847.

हित क्षेत्रों से

91394385848.

Question Number : 13 Question Id : 91394321858 Question Type : MCQ Option Shuffling : Yes Display Question Number : Yes
Single Line Question Option : No Option Orientation : Vertical

Correct Marks : 2 Wrong Marks : 0

किसके माध्यम से विलक्षण परिणाम होंगे ?

Options :

नीति-निर्माण

91394385849.

सुसंगति के रचनात्मक परिणाम

91394385850.

शोध एवं शिक्षा के मध्य के अवरोधकों को हटाना

91394385851.

सुसंगति

91394385852.

Question Number : 14 Question Id : 91394321859 Question Type : MCQ Option Shuffling : Yes Display Question Number : Yes
Single Line Question Option : No Option Orientation : Vertical

Correct Marks : 2 Wrong Marks : 0

गद्यांश के आधार पर यह कहा जा सकता है कि सुसंगति है :

Options :

क्रमिक रूप से विकसित होने वाली एक उदग्र प्रक्रिया

91394385853.

शक्ति संवर्धन की एक सामान्य योगात्मक प्रक्रिया

91394385854.

विभिन्न पक्षों पर आधारित एक अंतःक्रियात्मक प्रक्रिया

91394385855.

एक बहुविध अंतःक्रियात्मक प्रक्रिया

91394385856.

Question Number : 15 Question Id : 91394321860 Question Type : MCQ Option Shuffling : Yes Display Question Number : Yes
Single Line Question Option : No Option Orientation : Vertical

Correct Marks : 2 Wrong Marks : 0

किसी राष्ट्र में शोध की गुणवत्ता में किसके परिणामस्वरूप बढ़ोत्तरी होती है ?

Options :

शोधार्थियों की समर्पित भावना

91394385857.

शोधार्थियों का कठोर श्रम

91394385858.

शोधार्थियों की विशेषज्ञता शक्ति

91394385859.

शोधों में विविधता

91394385860.

Sub-Section Number: 3
Sub-Section Id: 9139431171
Question Shuffling Allowed : Yes

Question Number : 16 Question Id : 91394321861 Question Type : MCQ Option Shuffling : Yes Display Question Number : Yes
Single Line Question Option : No Option Orientation : Vertical

Correct Marks : 2 Wrong Marks : 0

Which of the following sequence **correctly** depicts the linear communication model between teacher and students.

Options :

Encode → Symbols → Message → Channel

91394385861.

Channel → Message → Symbols → Encode

91394385862.

Message → Channel → Symbols → Encode

91394385863.

Symbols → Message → Encode → Channel

91394385864.

Question Number : 16 Question Id : 91394321861 Question Type : MCQ Option Shuffling : Yes Display Question Number : Yes
Single Line Question Option : No Option Orientation : Vertical

Correct Marks : 2 Wrong Marks : 0

निम्नांकित में से कौन सा अनुक्रम शिक्षक और छात्रों के बीच उदग्र संप्रेषण प्रतिमान को सही रूप में प्रदर्शित करता है ?

Options :

91394385861. कूट संकेतन → संकेत → संदेश → चैनल

91394385862. चैनल → संदेश → संकेत → कूट संकेतन

91394385863. संदेश → चैनल → संकेत → कूट संकेतन

91394385864. संकेत → संदेश → कूट संकेतन → चैनल

Question Number : 17 Question Id : 91394321862 Question Type : MCQ Option Shuffling : Yes Display Question Number : Yes
Single Line Question Option : No Option Orientation : Vertical

Correct Marks : 2 Wrong Marks : 0

A university teacher makes a very effective expository presentation in his/her class without caring for its effect on the students. This is an example of a/an :

Options :

91394385865. Linear Communication Model

91394385866. Interactive Communication Model

91394385867. Transactional Communication Model

91394385868. Authoritarian Communication Model

Question Number : 17 Question Id : 91394321862 Question Type : MCQ Option Shuffling : Yes Display Question Number : Yes
Single Line Question Option : No Option Orientation : Vertical

Correct Marks : 2 Wrong Marks : 0

एक विश्वविद्यालय शिक्षक अपनी कक्षा में बहुत प्रभावी वर्णनात्मक प्रस्तुति करता/करती है, छात्रों पर इसके प्रभाव के बारे में चिन्ता किए बगैर/यह निम्नांकित में से किसका उदाहरण है?

Options :

91394385865. उदग्र संप्रेषण प्रतिमान

91394385866. अंतःक्रियात्मक संप्रेषण प्रतिमान

91394385867. क्रियान्विति परक संप्रेषण प्रतिमान

91394385868. सत्तात्मक संप्रेषण प्रतिमान

Correct Marks : 2 Wrong Marks : 0

Below are given two sets. Set - I specifies the sensory modes while Set - II offer illustration of speech communication to go with them. Match the two sets and indicate your answer by selecting the appropriate code.

Set - I

(Sensory modes)

- (a) Sight mode
- (b) Hearing mode
- (c) Touch mode
- (d) Smell mode
- (e) Taste mode

Set- II

(Illustrative speech)

- (i) It leaves a bad taste in my mouth.
- (ii) I can't put my finger on the problem.
- (iii) Something is fishy.
- (iv) That looks good to me.
- (v) That sounds fine to me.

Code :

- (a) (b) (c) (d) (e)

Options :

91394385869. (iv) (v) (ii) (iii) (i)

91394385870. (i) (ii) (iii) (iv) (v)

91394385871. (ii) (iii) (iv) (v) (i)

91394385872. (ii) (iii) (i) (iv) (v)

Correct Marks : 2 Wrong Marks : 0

नीचे दो समूह दिए गए हैं। समूह-I में इन्द्रिय-संवेदी प्रकारता विनिर्दिष्ट हैं जबकि समूह-II में उनके अनुरूप संभाषिक संप्रेषण का वर्णन है। दोनों समूहों को सुमेलित करें और उपयुक्त कूट का चयन करते हुए अपना उत्तर दें।

समूह-I

(इन्द्रिय-संवेदी प्रकारता)

- (a) दृश्य प्रकारता
- (b) श्रवण प्रकारता
- (c) स्पर्श प्रकारता
- (d) घ्राण प्रकारता
- (e) रस प्रकारता

समूह-II

(दृष्टान्त परक संभाषण)

- (i) इससे मेरे मुँह में बुरा स्वाद आता है।
- (ii) मैं समस्या पर अपनी उँगली नहीं रख सकता।
- (iii) कुछ सड़ांध है।
- (iv) यह मुझे सही लगता है।
- (v) मुझे सुनने में यह ठीक लगता है।

कूट :

- (a) (b) (c) (d) (e)

Options :

91394385869. (iv) (v) (ii) (iii) (i)

91394385870. (i) (ii) (iii) (iv) (v)

91394385871. (ii) (iii) (iv) (v) (i)

91394385872. (ii) (iii) (i) (iv) (v)

Question Number : 19 Question Id : 91394321864 Question Type : MCQ Option Shuffling : Yes Display Question Number : Yes
Single Line Question Option : No Option Orientation : Vertical

Correct Marks : 2 Wrong Marks : 0

Which of the following is a powerful indicator of mis-communication in a classroom transaction ?

Options :

91394385873. Volley of questions relevant to the subject.

91394385874. 'Yawning' by most of the students.

91394385875. Purposely non-participative moves of students.

91394385876. Volley of questions irrelevant to the subject.

Question Number : 19 Question Id : 91394321864 Question Type : MCQ Option Shuffling : Yes Display Question Number : Yes
Single Line Question Option : No Option Orientation : Vertical

Correct Marks : 2 Wrong Marks : 0

निम्नांकित में से कौन कक्षा क्रियान्विति में कु-संप्रेषण का एक सशक्त संसूचक है ?

Options :

91394385873. विषय के प्रति प्रासंगिक प्रश्नों की झड़ी

91394385874. अधिकांश छात्रों का 'उबासी लेना'

91394385875. छात्रों द्वारा सोदेश्य अप्रतिभागी संचलन

91394385876. विषय के प्रति अप्रासंगिक प्रश्नों की झड़ी

Question Number : 20 Question Id : 91394321865 Question Type : MCQ Option Shuffling : Yes Display Question Number : Yes
Single Line Question Option : No Option Orientation : Vertical

Correct Marks : 2 Wrong Marks : 0

In which model of communication 'noises' are introduced as an important variable ?

Options :

91394385877. Linear Model of Communication
91394385878. Participative Model of Communication
91394385879. Transactional Model of Communication
91394385880. Assertive Model of Communication

Question Number : 20 Question Id : 91394321865 Question Type : MCQ Option Shuffling : Yes Display Question Number : Yes
Single Line Question Option : No Option Orientation : Vertical

Correct Marks : 2 Wrong Marks : 0

किस संप्रेषण प्रतिमान में 'शोर' को महत्वपूर्ण चर के रूप में प्रवर्तित किया जाता है?

Options :

91394385877. संप्रेषण का उदग्र प्रतिमान
91394385878. संप्रेषण का प्रतिभागिता परक प्रतिमान
91394385879. संप्रेषण का क्रियान्विति परक प्रतिमान
91394385880. संप्रेषण का आग्रही प्रतिमान

Question Number : 21 Question Id : 91394321866 Question Type : MCQ Option Shuffling : Yes Display Question Number : Yes
Single Line Question Option : No Option Orientation : Vertical

Correct Marks : 2 Wrong Marks : 0

Aman travelled 300 km by train and 200 km by taxi, and he completed this journey in 5 hours and 30 minutes. However, if he travels 260 km by train and 240 km by taxi, it will take 6 minutes more to complete the journey. The speed of the train is :

Options :

91394385881. 100 km/hour
91394385882. 120 km/hour
91394385883. 80 km/hour
91394385884. 110 km/hour

Question Number : 21 Question Id : 91394321866 Question Type : MCQ Option Shuffling : Yes Display Question Number : Yes
Single Line Question Option : No Option Orientation : Vertical

Correct Marks : 2 Wrong Marks : 0

अमन ने 300 कि.मी. की यात्रा ट्रेन से और 200 कि.मी. की यात्रा टैक्सी से की और उसे उसमें 5 घंटे 30 मिनट का समय लगा। बहरहाल, यदि वह 260 कि.मी. ट्रेन से और 240 कि.मी. टैक्सी से यात्रा करता है तो उसे यात्रा पूरी करने में 6 मिनट का समय और लगेगा। ट्रेन की गति है :

Options :

91394385881. 100 कि.मी/घंटा

91394385882. 120 कि.मी/घंटा

91394385883. 80 कि.मी/घंटा

91394385884. 110 कि.मी/घंटा

Question Number : 22 Question Id : 91394321867 Question Type : MCQ Option Shuffling : Yes Display Question Number : Yes
Single Line Question Option : No Option Orientation : Vertical

Correct Marks : 2 Wrong Marks : 0

The present age of the father is twice that of the elder son. Ten years hence the age of the father will be three times that of the younger son. If the difference in ages of the two sons is as 15 years, the present age of the father is :

Options :

91394385885. 110 years

91394385886. 70 years

91394385887. 60 years

91394385888. 50 years

Question Number : 22 Question Id : 91394321867 Question Type : MCQ Option Shuffling : Yes Display Question Number : Yes
Single Line Question Option : No Option Orientation : Vertical

Correct Marks : 2 Wrong Marks : 0

पिता की वर्तमान आयु बड़े पुत्र की आयु की दुगुनी है। आज से दस वर्ष बाद पिता की आयु छोटे पुत्र की आयु की तीन गुना होगी। यदि दोनों पुत्रों की आयु में अंतर 15 वर्ष हो तो पिता की वर्तमान आयु है :

Options :

91394385885. 110 वर्ष

70 वर्ष

91394385886.

60 वर्ष

91394385887.

50 वर्ष

91394385888.

Question Number : 23 Question Id : 91394321868 Question Type : MCQ Option Shuffling : Yes Display Question Number : Yes
Single Line Question Option : No Option Orientation : Vertical

Correct Marks : 2 Wrong Marks : 0

In the sequence of numbers 2, 8, 24, 64, 160, x ,....., the term x is :

Options :

320

91394385889.

384

91394385890.

192

91394385891.

224

91394385892.

Question Number : 23 Question Id : 91394321868 Question Type : MCQ Option Shuffling : Yes Display Question Number : Yes
Single Line Question Option : No Option Orientation : Vertical

Correct Marks : 2 Wrong Marks : 0

संख्याओं के क्रम 2, 8, 24, 64, 160, x ,....., में x पद का मान है :

Options :

320

91394385889.

384

91394385890.

192

91394385891.

224

91394385892.

Question Number : 24 Question Id : 91394321869 Question Type : MCQ Option Shuffling : Yes Display Question Number : Yes
Single Line Question Option : No Option Orientation : Vertical

Correct Marks : 2 Wrong Marks : 0

In a certain code, PLEADING is written as FMHCQMFB. How is SHOULDER written in that code ?

Options :

91394385893. KCDQTIPV

91394385894. QDCKVPIT

91394385895. QDCKTIPV

91394385896. TIPVQDCK

Question Number : 24 Question Id : 91394321869 Question Type : MCQ Option Shuffling : Yes Display Question Number : Yes
Single Line Question Option : No Option Orientation : Vertical

Correct Marks : 2 Wrong Marks : 0

किसी कतिपय कूट में PLEADING को FMHCQMFB लिखा जाता है। उस कूट में SHOULDER को कैसे लिखा जाएगा ?

Options :

91394385893. KCDQTIPV

91394385894. QDCKVPIT

91394385895. QDCKTIPV

91394385896. TIPVQDCK

Question Number : 25 Question Id : 91394321870 Question Type : MCQ Option Shuffling : Yes Display Question Number : Yes
Single Line Question Option : No Option Orientation : Vertical

Correct Marks : 2 Wrong Marks : 0

In conveying the same meanings, which of the following is incongruous ?

Options :

91394385897. Unique

91394385898. Beautiful

91394385899. Rare

91394385900. Exceptional

Question Number : 25 Question Id : 91394321870 Question Type : MCQ Option Shuffling : Yes Display Question Number : Yes
Single Line Question Option : No Option Orientation : Vertical

Correct Marks : 2 Wrong Marks : 0

समान अर्थ संप्रेषित करने में निम्नांकित में से कौन असंगत है?

Options :

अनूठा

91394385897.

सुंदर

91394385898.

दुर्लभ

91394385899.

अपवादात्मक

91394385900.

Question Number : 26 Question Id : 91394321871 Question Type : MCQ Option Shuffling : Yes Display Question Number : Yes
Single Line Question Option : No Option Orientation : Vertical

Correct Marks : 2 Wrong Marks : 0

In terms of the relationship indicated below, which word will correctly pair to replace the question mark (?) ?

Scrub : wash :: Sob : ____ ? ____.

Options :

Cry

91394385901.

Water

91394385902.

Sad

91394385903.

Tease

91394385904.

Question Number : 26 Question Id : 91394321871 Question Type : MCQ Option Shuffling : Yes Display Question Number : Yes
Single Line Question Option : No Option Orientation : Vertical

Correct Marks : 2 Wrong Marks : 0

नीचे दर्शाये गए संबंध के अनुसार, कौन सा शब्द खाली स्थान भरने के लिए उपयुक्त होगा ?

रगड़ना : धोना :: सुबकना : ____ ? ____.

Options :

रोना

91394385901.

पानी

91394385902.

उदास

91394385903.

Question Number : 27 Question Id : 91394321872 Question Type : MCQ Option Shuffling : Yes Display Question Number : Yes
Single Line Question Option : No Option Orientation : Vertical

Correct Marks : 2 Wrong Marks : 0

Given below are two premises with four conclusions drawn from them (taking singly or together). Which conclusions are validly drawn ? Select the **correct** answer from the code given below.

- Premises :**
- (i) All lawyers are extroverts.
 - (ii) Some wisemen are extroverts.
- Conclusions :**
- (a) All lawyers are wisemen.
 - (b) All wisemen are lawyers.
 - (c) Some extroverts are wisemen.
 - (d) All extroverts are lawyers.

Code :

Options :

91394385905. (a) only

91394385906. (b) and (c) only

91394385907. (a) and (c) only

91394385908. (c) only

Question Number : 27 Question Id : 91394321872 Question Type : MCQ Option Shuffling : Yes Display Question Number : Yes
Single Line Question Option : No Option Orientation : Vertical

Correct Marks : 2 Wrong Marks : 0

नीचे दो आधार वाक्य दिए गए हैं जिनसे चार निष्कर्ष निकलते हैं (अकेले या एक साथ)। कौन सा निष्कर्ष सही है? नीचे दिए गए कूट में से सही उत्तर चुनें।

- आधार वाक्य :**
- (i) सभी अधिवक्ता बहिर्मुखी होते हैं।
 - (ii) कुछ बुद्धिमान लोग बहिर्मुखी होते हैं।

- निष्कर्ष :**
- (a) सभी अधिवक्ता बुद्धिमान हैं।
 - (b) सभी बुद्धिमान अधिवक्ता हैं।
 - (c) कुछ बहिर्मुखी बुद्धिमान हैं।
 - (d) सभी बहिर्मुखी अधिवक्ता हैं।

कूट :

Options :

91394385905. सिर्फ (a)

सिर्फ (b) और (c)

91394385906.

सिर्फ (a) और (c)

91394385907.

सिर्फ (c)

91394385908.

Question Number : 28 Question Id : 91394321873 Question Type : MCQ Option Shuffling : Yes Display Question Number : Yes
Single Line Question Option : No Option Orientation : Vertical

Correct Marks : 2 Wrong Marks : 0

Which is an example of a correct deductive argument ?

Options :

There are 24 CDs on the top shelf of my bookcase and 14 on the lower shelf. There are no other CDs in my bookcase. Therefore, there are 38 CDs in my bookcase.

91394385909.

No one got an 'A' grade on yesterday's test. Jatin wasn't in school yesterday. Jatin will make up the test today and get an 'A' grade.

91394385910.

All human beings are in favor of world peace. Terrorists don't care about world peace. Terrorists bring about destruction.

91394385911.

You have to be 16 years old to get a driver's license. Abhi will be 16 years old tomorrow. Therefore, Abhi can now buy a car.

91394385912.

Question Number : 28 Question Id : 91394321873 Question Type : MCQ Option Shuffling : Yes Display Question Number : Yes
Single Line Question Option : No Option Orientation : Vertical

Correct Marks : 2 Wrong Marks : 0

निम्नांकित में से कौन एक सही निगमनात्मक तर्क का उदाहरण है ?

Options :

मेरे बुक-केस के ऊपरी शेल्फ में 24 और निचले शेल्फ में 14 सीडी हैं। मेरे बुक-केस में कोई और सीडी नहीं है। इसलिए, मेरे बुक-केस में 38 सीडी हैं।

91394385909.

कल की परीक्षा में किसी को 'A' ग्रेड नहीं मिला। जतिन कल स्कूल में नहीं था। जतिन आज परीक्षा देगा और 'A' ग्रेड प्राप्त करेगा।

91394385910.

सभी मनुष्य विश्व शांति के पक्ष में हैं। आतंकवादी विश्व शांति की परवाह नहीं करते। आतंकवादी विनाश करते हैं।

91394385911.

डाइविंग लाइसेंस पाने के लिए आपको 16 वर्ष का होना चाहिए। अभि कल 16 वर्ष का हो जाएगा। इसलिए, अब अभि एक कार खरीद सकता है।

91394385912.

Question Number : 29 Question Id : 91394321874 Question Type : MCQ Option Shuffling : Yes Display Question Number : Yes
Single Line Question Option : No Option Orientation : Vertical

Correct Marks : 2 Wrong Marks : 0

In a certain flight crew, the positions of the pilot, copilot and flight engineer are held by Mr. Ajit, Mr. Bhavesh and Mr. Chirag, though not necessarily in that order. The following statements are true for all the three :

- (i) The copilot is the only child and earns the least.
- (ii) Chirag is married to Bhavesh's sister and earns more than the pilot.

Who is the copilot ?

Options :

91394385913. Ajit

91394385914. Bhavesh

91394385915. Chirag

91394385916. Either Ajit or Chirag

Question Number : 29 Question Id : 91394321874 Question Type : MCQ Option Shuffling : Yes Display Question Number : Yes
Single Line Question Option : No Option Orientation : Vertical

Correct Marks : 2 Wrong Marks : 0

कतिपय विमान चालक दल में श्री अजित, श्री भवेश और श्री चिराग पायलट, सह-पायलट और फ्लाइट इंजीनियर हैं, हाँलाकि जरूरी नहीं कि यह इसी क्रम में हो। निम्नांकित कथन इन तीनों के लिए सही हैं :

- (i) सह-पायलट अकेली संतान है और सबसे कम कमाता है।
- (ii) चिराग की शादी भवेश की बहन से हुई है और वह पायलट से अधिक कमाता है।

सह पायलट कौन है ?

Options :

91394385913. अजित

91394385914. भवेश

91394385915. चिराग

91394385916. या तो अजित या चिराग

Question Number : 30 Question Id : 91394321875 Question Type : MCQ Option Shuffling : Yes Display Question Number : Yes
Single Line Question Option : No Option Orientation : Vertical

Correct Marks : 2 Wrong Marks : 0

Ravi and Kunal are good in Hockey and Volleyball. Sachin and Ravi are good in Hockey and Baseball. Gaurav and Kunal are good in Cricket and Volleyball. Sachin, Gaurav and Mandeep are good in Football and Baseball. Who is good in Hockey, Cricket and Volleyball ?

Options :

Sachin

91394385917.

Kunal

91394385918.

Ravi

91394385919.

Gaurav

91394385920.

Question Number : 30 Question Id : 91394321875 Question Type : MCQ Option Shuffling : Yes Display Question Number : Yes
Single Line Question Option : No Option Orientation : Vertical

Correct Marks : 2 Wrong Marks : 0

रवि और कुणाल हॉकी और वॉलीबॉल के अच्छे खिलाड़ी हैं। सचिन और रवि हॉकी और बेसबाल के अच्छे खिलाड़ी हैं। गौरव और कुणाल क्रिकेट और वॉलीबाल के अच्छे खिलाड़ी हैं। सचिन, गौरव और मनदीप फुटबॉल और बेसबॉल के अच्छे खिलाड़ी हैं। हॉकी, क्रिकेट और वॉलीबॉल का अच्छा खिलाड़ी कौन है?

Options :

सचिन

91394385917.

कुणाल

91394385918.

रवि

91394385919.

गौरव

91394385920.

Sub-Section Number:

4

Sub-Section Id:

9139431172

Question Shuffling Allowed :

Yes

Question Id : 91394321876 Question Type : COMPREHENSION Sub Question Shuffling Allowed : Yes Group Comprehension
Questions : No

Question Numbers : (31 to 35)

Question Label : Comprehension

Consider the following two tables (I and II) that show the production (in Tonnes) of four products P, Q, R and S during the years 2010-2015 and the selling price per Tonne (in ₹ thousands) respectively. In accordance with the tables I and II, answer the questions that follow (Questions 31 - 35) :

I : Production Yearwise (in Tonnes)

Product → Year ↓	P	Q	R	S
2010	45	99	75	115
2011	25	41	93	158
2012	40	108	107	166
2013	38	60	63	139
2014	76	41	132	88
2015	56	70	120	97

II : Selling Price
(in ₹ thousands)

Product	Price Per Tonne
P	₹ 9
Q	₹ 4
R	₹ 13
S	₹ 3

Where,

Stability of production of a given product during 2010-2015

$$= \frac{\text{Average Production}}{\text{Maximum Production} - \text{Minimum Production}}$$

and Revenue (in ₹ thousands) from selling a product

$$= \text{Production of a Product} \times \text{Selling Price}$$

Sub questions

Question Number : 31 Question Id : 91394321877 Question Type : MCQ Option Shuffling : Yes Display Question Number : Yes
Single Line Question Option : No Option Orientation : Vertical

Correct Marks : 2 Wrong Marks : 0

In which year, the annual growth rate of production (of all the products together) is highest ?

Options :

2011

91394385921.

2012

91394385922.

2014

91394385923.

2015

91394385924.

Question Number : 32 Question Id : 91394321878 Question Type : MCQ Option Shuffling : Yes Display Question Number : Yes
Single Line Question Option : No Option Orientation : Vertical

Correct Marks : 2 Wrong Marks : 0

What is the stability of the production of P during 2010 - 2015 ?

Options :

91394385925. 0.92

91394385926. 1.04

91394385927. 1.43

91394385928. 1.63

Question Number : 33 Question Id : 91394321879 Question Type : MCQ Option Shuffling : Yes Display Question Number : Yes
Single Line Question Option : No Option Orientation : Vertical

Correct Marks : 2 Wrong Marks : 0

In which year, the total revenue of all the four products is lowest ?

Options :

91394385929. 2011

91394385930. 2012

91394385931. 2013

91394385932. 2010

Question Number : 34 Question Id : 91394321880 Question Type : MCQ Option Shuffling : Yes Display Question Number : Yes
Single Line Question Option : No Option Orientation : Vertical

Correct Marks : 2 Wrong Marks : 0

Which of the products P, Q, R and S fetches the lowest revenue ?

Options :

91394385933. P

91394385934. Q

91394385935. R

91394385936. S

Correct Marks : 2 Wrong Marks : 0

Which of the following statements is true ?

Options :

91394385937. Product R fetches second highest revenue across products in the year 2011.

91394385938. Sum of revenue of P, Q and S is more than the revenue of R in the year 2014.

91394385939. Cumulative revenue of P and Q is more than the revenue of S in the year 2013.

91394385940. Sum of revenue of P, Q, and S is more than the revenue of R in the year 2012.

Question Id : 91394321876 Question Type : COMPREHENSION Sub Question Shuffling Allowed : Yes Group Comprehension
Questions : No

Question Numbers : (31 to 35)

Question Label : Comprehension

निम्नांकित दो सारणियों (I और II) पर विचार करें जो चार उत्पादों P, Q, R, S का वर्ष 2010-2015 के दौरान उत्पादन (टन में) और क्रमशः प्रति टन विक्रय मूल्य (हजार ₹ में) दर्शाती हैं। सारणी I और II के अनुसार निम्नांकित प्रश्नों (प्रश्न 31 से 35) का उत्तर दें :

I : वर्षवार उत्पादन (टन में)

II : विक्रय मूल्य (हजार ₹ में)

उत्पाद → वर्ष ↓	P	Q	R	S
2010	45	99	75	115
2011	25	41	93	158
2012	40	108	107	166
2013	38	60	63	139
2014	76	41	132	88
2015	56	70	120	97

उत्पाद	मूल्य प्रति टन
P	₹ 9
Q	₹ 4
R	₹ 13
S	₹ 3

जहाँ,
वर्ष 2010-2015 के दौरान किसी दिए गए उत्पाद के उत्पादन की स्थिरता

$$= \frac{\text{औसत उत्पादन}}{\text{अधिकतम उत्पादन} - \text{न्यूनतम उत्पादन}}$$

और किसी उत्पाद की बिक्री से प्राप्त आय (हजार ₹ में)

$$= \text{किसी उत्पाद का उत्पादन} \times \text{विक्रय मूल्य}$$

Sub questions

Correct Marks : 2 Wrong Marks : 0

किस वर्ष में उत्पादन (सभी उत्पादों का एक साथ) की वार्षिक वृद्धि दर उच्चतम है?

Options :

91394385921. 2011

91394385922. 2012

91394385923. 2014

91394385924. 2015

Question Number : 32 Question Id : 91394321878 Question Type : MCQ Option Shuffling : Yes Display Question Number : Yes
Single Line Question Option : No Option Orientation : Vertical

Correct Marks : 2 Wrong Marks : 0

वर्ष 2010 - 2015 के दौरान P के उत्पादन की स्थिरता क्या है?

Options :

91394385925. 0.92

91394385926. 1.04

91394385927. 1.43

91394385928. 1.63

Question Number : 33 Question Id : 91394321879 Question Type : MCQ Option Shuffling : Yes Display Question Number : Yes
Single Line Question Option : No Option Orientation : Vertical

Correct Marks : 2 Wrong Marks : 0

सभी चार उत्पादों से प्राप्त कुल आय किस वर्ष में न्यूनतम है?

Options :

91394385929. 2011

91394385930. 2012

91394385931. 2013

2010

91394385932.

Question Number : 34 Question Id : 91394321880 Question Type : MCQ Option Shuffling : Yes Display Question Number : Yes
Single Line Question Option : No Option Orientation : Vertical

Correct Marks : 2 Wrong Marks : 0

P, Q, R और S में से किस उत्पाद से प्राप्त आय निम्नतम है?

Options :

91394385933. P

91394385934. Q

91394385935. R

91394385936. S

Question Number : 35 Question Id : 91394321881 Question Type : MCQ Option Shuffling : Yes Display Question Number : Yes
Single Line Question Option : No Option Orientation : Vertical

Correct Marks : 2 Wrong Marks : 0

निम्न में से कौन सा कथन सही है?

Options :

91394385937. वर्ष 2011 में सभी उत्पादों में से उत्पाद R से प्राप्त आय दूसरी सबसे ज्यादा है।

91394385938. वर्ष 2014 में P, Q और S से प्राप्त कुल आय का योग R से प्राप्त आय से अधिक है।

91394385939. वर्ष 2013 में P और Q से प्राप्त कुल आय S से प्राप्त आय से अधिक है।

91394385940. वर्ष 2012 में P, Q और S से प्राप्त कुल आय R से प्राप्त आय से अधिक है।

Sub-Section Number:

5

Sub-Section Id:

9139431173

Question Shuffling Allowed :

Yes

Question Number : 36 Question Id : 91394321882 Question Type : MCQ Option Shuffling : Yes Display Question Number : Yes
Single Line Question Option : No Option Orientation : Vertical

Correct Marks : 2 Wrong Marks : 0

A virus hoax is an untrue virus warning email. When you receive a virus hoax such as the one below, what is the appropriate action ?

Subject : Warning!

A new Virus has been detected in your computer. Format your hard disk and re-install all softwares immediately.

Options :

91394385941. Ignore this email

91394385942. Reply to the sender

91394385943. Forward this email to your friends

91394385944. Format your hard disk and re-install all software immediately

Question Number : 36 Question Id : 91394321882 Question Type : MCQ Option Shuffling : Yes Display Question Number : Yes
Single Line Question Option : No Option Orientation : Vertical

Correct Marks : 2 Wrong Marks : 0

एक 'वायरस हॉक्स' वायरस की मिथ्या सूचना प्रदायी सचेतक इमेल है। जब आपको निम्नानुसार एक 'वायरस हॉक्स' प्राप्त होता है तो उचित कार्रवाई क्या होगी ?

विषय : चेतावनी!

आपके कंप्यूटर में एक नये वायरस का पता चला है। अपने हार्ड डिस्क को तत्काल फॉर्मेट करें और सभी सॉफ्टवेयर को री-इंस्टॉल करें।

Options :

91394385941. इस इमेल की अनदेखी करना

91394385942. प्रेषक को उत्तर देना

91394385943. अपने मित्रों को यह मेल अग्रेषित करना

91394385944. तत्काल अपना हार्ड डिस्क फॉर्मेट करना और सभी सॉफ्टवेयर को री-इंस्टॉल करना

Question Number : 37 Question Id : 91394321883 Question Type : MCQ Option Shuffling : Yes Display Question Number : Yes
Single Line Question Option : No Option Orientation : Vertical

Correct Marks : 2 Wrong Marks : 0

There are two sets given below. **Set - I** specifies the IT related acronyms, while **Set - II** indicates their meanings. Match the two and give your answer by selecting the appropriate code.

Set - I (Acronyms)	Set - II (Meanings)
(a) DPI	(i) Measures resolution of a laser printer
(b) CRT	(ii) An example of read-only storage
(c) NIC	(iii) A type of computer monitor
(d) CD-ROM	(iv) Enables a computer to connect to other computers

Code :

Options :

91394385945. (ii) (iv) (iii) (i)

91394385946. (i) (iv) (iii) (ii)

91394385947. (i) (iii) (iv) (ii)

91394385948. (ii) (iii) (iv) (i)

Question Number : 37 Question Id : 91394321883 Question Type : MCQ Option Shuffling : Yes Display Question Number : Yes Single Line Question Option : No Option Orientation : Vertical

Correct Marks : 2 Wrong Marks : 0

नीचे दो समूह दिए गए हैं। समूह - I में आई.टी. से संबंधित शब्द-संक्षेप हैं जबकि समूह - II में उनके अर्थ हैं। दोनों समूहों को सुमेलित करें और उचित कूट का चयन करते हुए उत्तर दें।

समूह - I (शब्द-संक्षेप)	समूह - II (अर्थ)
(a) डी.पी.आई.	(i) एक लेजर प्रिंटर की रिजोल्यूशन की माप करता है।
(b) सी.आर.टी.	(ii) रीड-ओनली स्टोरेज का एक उदाहरण
(c) एन.आइ.सी.	(iii) एक प्रकार का कंप्यूटर मॉनीटर
(d) सीडी-रोम	(iv) एक कंप्यूटर को दूसरे कंप्यूटर से जुड़ने में मदद करता है।

कूट :

(a) (b) (c) (d)

Options :

91394385945. (ii) (iv) (iii) (i)

91394385946. (i) (iv) (iii) (ii)

91394385947. (i) (iii) (iv) (ii)

(ii) (iii) (iv) (i)

91394385948.

Question Number : 38 Question Id : 91394321884 Question Type : MCQ Option Shuffling : Yes Display Question Number : Yes
Single Line Question Option : No Option Orientation : Vertical

Correct Marks : 2 Wrong Marks : 0

Which of the following statement(s) regarding the term ICT is/are **True** ?

P : ICT is the abbreviation of Information and Collaboration Technology, meaning technology related to information and collaboration, such as computers and the Internet.

Q : The gap between people with effective access to ICT and those with very limited or no access at all, is termed as digital divide.

Options :

P only

91394385949.

Q only

91394385950.

P and Q

91394385951.

Neither P nor Q

91394385952.

Question Number : 38 Question Id : 91394321884 Question Type : MCQ Option Shuffling : Yes Display Question Number : Yes
Single Line Question Option : No Option Orientation : Vertical

Correct Marks : 2 Wrong Marks : 0

आई.सी.टी. पद के बारे में निम्नांकित में से कौन सा कथन सही है/हैं ?

P : आई.सी.टी., सूचना और प्रतिभाग आधारित प्रौद्योगिकी का शब्द-संक्षेप है, यानि सूचना और प्रतिभागिता से संबंधित प्रौद्योगिकी जैसे कंप्यूटर और इंटरनेट.

Q : आई.सी.टी. तक प्रभावी पहुँच वाले लोगों और अत्यंत सीमित अथवा शून्य पहुँच वाले लोगों के बीच अंतर को डिजिटल डिवाइड कहा जाता है।

Options :

सिर्फ P

91394385949.

सिर्फ Q

91394385950.

P और Q

91394385951.

न तो P और न ही Q

91394385952.

Question Number : 39 Question Id : 91394321885 Question Type : MCQ Option Shuffling : Yes Display Question Number : Yes
Single Line Question Option : No Option Orientation : Vertical

Correct Marks : 2 Wrong Marks : 0

The computer software that runs a computer, including scheduling tasks, managing storage and handling communication with peripherals is called :

Options :

Device Driver

91394385953.

Application Suite

91394385954.

Operating System

91394385955.

Bluetooth Technology

91394385956.

Question Number : 39 Question Id : 91394321885 Question Type : MCQ Option Shuffling : Yes Display Question Number : Yes
Single Line Question Option : No Option Orientation : Vertical

Correct Marks : 2 Wrong Marks : 0

कंप्यूटर को चलाने वाला कंप्यूटर सॉफ्टवेयर, जिसमें कार्यों की अनुसूची बनाना, भंडारण प्रबंधन और अवआधारकों के साथ संप्रेषण संचालन शामिल है, क्या कहलाता है ?

Options :

डिवाइस ड्राइवर

91394385953.

एप्लीकेशन सुइट

91394385954.

ऑपरेटिंग सिस्टम

91394385955.

ब्लूटूथ प्रौद्योगिकी

91394385956.

Question Number : 40 Question Id : 91394321886 Question Type : MCQ Option Shuffling : Yes Display Question Number : Yes
Single Line Question Option : No Option Orientation : Vertical

Correct Marks : 2 Wrong Marks : 0

The following list indicates different types of computer file formats. Which of them is devoted exclusively to graphic file formats ?

Options :

GIF, JPEG, DOC

91394385957.

PNG, GIF, JPEG

91394385958.

JPEG, TIFF, HTML

91394385959.

TIFF, XLS, PNG

91394385960.

Question Number : 40 Question Id : 91394321886 Question Type : MCQ Option Shuffling : Yes Display Question Number : Yes
Single Line Question Option : No Option Orientation : Vertical

Correct Marks : 2 Wrong Marks : 0

निम्नांकित सूची में विविध प्रकार के कंप्यूटर फाइल फॉर्मेट दिए गए हैं। निम्नांकित में से कौन पूर्णतः ग्राफिक फाइल फॉर्मेट के लिए समर्पित है?

Options :

जी.आई.एफ., जे.पी.ई.जी., डी.ओ.सी.

91394385957.

पी.एन.जी., जी.आई.एफ., जे.पी.ई.जी.

91394385958.

जे.पी.ई.जी., टी.आई.एफ.एफ., एच.टी.एम.एल.

91394385959.

टी.आई.एफ.एफ., एक्स.एल.एस., पी.एन.जी.

91394385960.

Question Number : 41 Question Id : 91394321887 Question Type : MCQ Option Shuffling : Yes Display Question Number : Yes
Single Line Question Option : No Option Orientation : Vertical

Correct Marks : 2 Wrong Marks : 0

Following are two sets of items. Set - I lists different types of wastes, while Set - II indicates methods of their disposal. Match the two sets and give your answer from the code given below :

Set - I

Set - II

(Types of Waste)

(Methods of Disposal)

(a) Dry waste

(i) By composting

(b) Wet waste

(ii) By burying in landfills

(c) Toxic waste

(iii) By dropping them in corporation bins

(d) Soiled waste

(iv) By recycling

Code :

(a) (b) (c) (d)

Options :

(i) (ii) (iii) (iv)

91394385961.

(iv) (i) (ii) (iii)

91394385962.

91394385963. (ii) (iii) (iv) (i)

91394385964. (iii) (iv) (i) (ii)

Question Number : 41 Question Id : 91394321887 Question Type : MCQ Option Shuffling : Yes Display Question Number : Yes
Single Line Question Option : No Option Orientation : Vertical

Correct Marks : 2 Wrong Marks : 0

नीचे मदों के दो समूह दिए गए हैं। समूह - I में भिन्न प्रकार के अपशिष्ट हैं, जबकि समूह - II में उनके निस्तारण की विधियाँ दी गई हैं। दोनों समूहों को सुमेलित करें और नीचे दिए गए कूट में से सही उत्तर दें :

समूह - I

(अपशिष्ट का प्रकार)

- (a) शुष्क अपशिष्ट
- (b) गीला अपशिष्ट
- (c) विषैला अपशिष्ट
- (d) मलिन अपशिष्ट

समूह - II

(निस्तारण की विधियाँ)

- (i) उर्वरक बनाने के द्वारा
- (ii) जमीन में गाड़ने के द्वारा
- (iii) नगरपालिका के कूड़ेदान में डालने के द्वारा
- (iv) पुनर्चक्रण के द्वारा

कूट :

(a) (b) (c) (d)

Options :

91394385961. (i) (ii) (iii) (iv)

91394385962. (iv) (i) (ii) (iii)

91394385963. (ii) (iii) (iv) (i)

91394385964. (iii) (iv) (i) (ii)

Question Number : 42 Question Id : 91394321888 Question Type : MCQ Option Shuffling : Yes Display Question Number : Yes
Single Line Question Option : No Option Orientation : Vertical

Correct Marks : 2 Wrong Marks : 0

For ensuring sustainability in the quality ethos of the university environment which of the following would be considered high priority skill for a vice-chancellor ?

Options :

91394385965. Financial Management Skill

91394385966. Administrative Skill

Technical Management Skill

91394385967.

Human Resource Management Skill

91394385968.

Question Number : 42 Question Id : 91394321888 Question Type : MCQ Option Shuffling : Yes Display Question Number : Yes
Single Line Question Option : No Option Orientation : Vertical

Correct Marks : 2 Wrong Marks : 0

विश्वविद्यालय परिवेश में गुणवत्ता की संस्कृति की समर्थनीयता सुनिश्चित करने के लिए निम्नांकित में से किसे एक कुलपति का उच्च प्राथमिकता कौशल माना जायेगा ?

Options :

वित्तीय प्रबंधन कौशल

91394385965.

प्रशासनिक कौशल

91394385966.

तकनीकी प्रबंधन कौशल

91394385967.

मानव संसाधन प्रबंधन कौशल

91394385968.

Question Number : 43 Question Id : 91394321889 Question Type : MCQ Option Shuffling : Yes Display Question Number : Yes
Single Line Question Option : No Option Orientation : Vertical

Correct Marks : 2 Wrong Marks : 0

The purposes underlying the Renewable Energy Education programmes are :

Options :

Educative and investigative

91394385969.

Diagnostic and evaluative

91394385970.

Corrective and predictive

91394385971.

Preventive and ameliorative

91394385972.

Question Number : 43 Question Id : 91394321889 Question Type : MCQ Option Shuffling : Yes Display Question Number : Yes
Single Line Question Option : No Option Orientation : Vertical

Correct Marks : 2 Wrong Marks : 0

पुनर्नवीकरणीय ऊर्जा शिक्षा कार्यक्रमों के मूलभूत उद्देश्य हैं :

Options :

91394385969.

शिक्षणात्मक और अन्वेषणात्मक

91394385970.

नैदानिक और मूल्यांकनात्मक

91394385971.

संशोधनात्मक और भविष्यसूचक

91394385972.

निवारक और सुधारात्मक

Question Number : 44 Question Id : 91394321890 Question Type : MCQ Option Shuffling : Yes Display Question Number : Yes
Single Line Question Option : No Option Orientation : Vertical

Correct Marks : 2 Wrong Marks : 0

For an effective organisational climate within a university system, which of the following measures will be most appropriate ?

Options :

91394385973.

Creating an equilibrium between driving forces and restraining forces.

91394385974.

Increasing the power of driving forces and decreasing the power of restraining forces.

91394385975.

Decreasing the power of restraining forces without caring about the driving forces.

91394385976.

Increasing the power of driving forces without caring about the restraining forces.

Question Number : 44 Question Id : 91394321890 Question Type : MCQ Option Shuffling : Yes Display Question Number : Yes
Single Line Question Option : No Option Orientation : Vertical

Correct Marks : 2 Wrong Marks : 0

किसी विश्वविद्यालयी तंत्र के भीतर एक प्रभावी संगठनात्मक परिवेश के लिए निम्नांकित में से कौन सा उपाय सर्वाधिक उपयुक्त होगा ?

Options :

91394385973.

चालक बलों और अवरोधक बलों के बीच संतुलन कायम करना।

91394385974.

चालक बलों की शक्ति बढ़ाना और अवरोधक बलों की शक्ति घटाना।

91394385975.

चालक बलों की परवाह किए बगैर अवरोधक बलों की शक्ति घटाना।

91394385976.

अवरोधक बलों की परवाह किए बगैर चालक बलों की शक्ति बढ़ाना।

Question Number : 45 Question Id : 91394321891 Question Type : MCQ Option Shuffling : Yes Display Question Number : Yes
Single Line Question Option : No Option Orientation : Vertical

Correct Marks : 2 Wrong Marks : 0

Below are given a number of roles and functions at the government/non-government level indicating the specific responsibilities of the Ministry of Drinking Water and Sanitation. Identify those statements which indicate the areas of responsibility of this ministry. Select from the code to give your answer :

- (a) Overall policy and planning in respect of programmes of drinking water and sanitation.
- (b) Funding in respect of the programmes listed in (a).
- (c) Coordination of programmes floated.
- (d) Supply of food grains at reasonable price to the consumers.
- (e) Achieving the goal of zero hunger.
- (f) Implementation of Swachh Bharat Abhiyan in rural India.
- (g) Monitoring of prices and availability of essential commodities.

Code :

Options :

91394385977. (a), (b), (c), and (g)

91394385978. (a), (b), (d) and (e)

91394385979. (a), (b), (c) and (f)

91394385980. (a), (c), (d) and (e)

Question Number : 45 Question Id : 91394321891 Question Type : MCQ Option Shuffling : Yes Display Question Number : Yes Single Line Question Option : No Option Orientation : Vertical

Correct Marks : 2 Wrong Marks : 0

नीचे पेयजल और स्वच्छता मंत्रालय के विशिष्ट उत्तरदायित्वों को दर्शाते हुए सरकारी/गैर-सरकारी स्तर पर अनेक भूमिकाएँ और कार्य दिए गए हैं। उन कथनों की पहचान करें जो इस मंत्रालय के उत्तरदायित्व को दर्शाते हैं। दिए गए कूट में से अपना उत्तर चुनें :

- (a) पेयजल और स्वच्छता संबंधी कार्यक्रमों का समग्र नीति-निर्धारण और नियोजन
- (b) (a) में वर्णित कार्यक्रमों का वित्त पोषण
- (c) चलाये गए कार्यक्रमों का समन्वयन
- (d) उपभोक्ताओं को उचित कीमत पर खाद्यान्न की आपूर्ति
- (e) क्षुधा शून्यता के लक्ष्य को प्राप्त करना
- (f) भारत के ग्रामीण अंचलों में स्वच्छ भारत अभियान को लागू करना
- (g) आवश्यक वस्तुओं की उपलब्धता और कीमतों की निगरानी

कूट :

Options :

91394385977. (a), (b), (c) और (g)

91394385978. (a), (b), (d) और (e)

91394385979. (a), (b), (c) और (f)

91394385980. (a), (c), (d) और (e)

Question Number : 46 Question Id : 91394321892 Question Type : MCQ Option Shuffling : Yes Display Question Number : Yes
Single Line Question Option : No Option Orientation : Vertical

Correct Marks : 2 Wrong Marks : 0

Which of the following statements are **correct** about Indira Gandhi National Open University (IGNOU) ? To indicate your answer, select from the code given below :

- (a) It is an autonomous organisation.
- (b) It is devoted to promotion of open and distance education system.
- (c) It conducts assessment and accredits the State Open Universities.
- (d) It has jurisdiction in respect of Open and Distance learning system in India and to the study centres outside India.

Code :

Options :

91394385981. (a) and (b)

91394385982. (b) and (d)

91394385983. (c) and (d)

91394385984. (d) and (a)

Question Number : 46 Question Id : 91394321892 Question Type : MCQ Option Shuffling : Yes Display Question Number : Yes
Single Line Question Option : No Option Orientation : Vertical

Correct Marks : 2 Wrong Marks : 0

इंदिरा गाँधी राष्ट्रीय मुक्त विश्वविद्यालय (इग्नू) के बारे में निम्नांकित में से कौन से कथन सही हैं? दिए गए कूट में से अपना उत्तर दें :

- (a) यह एक स्वायत्तशासी संगठन है।
- (b) यह मुक्त और दूरस्थ शिक्षा प्रणाली के संवर्धन के लिए समर्पित है।
- (c) यह राज्यों के मुक्त विश्वविद्यालयों का मूल्यांकन और प्रत्यायन करता है।
- (d) भारत में मुक्त और दूरस्थ अधिगम प्रणाली और भारत के बाहर के इसके अध्ययन केंद्र इसके क्षेत्राधिकार में आते हैं।

कूट :

Options :

(a) और (b)

91394385981.

(b) और (d)

91394385982.

(c) और (d)

91394385983.

(d) और (a)

91394385984.

Question Number : 47 Question Id : 91394321893 Question Type : MCQ Option Shuffling : Yes Display Question Number : Yes
Single Line Question Option : No Option Orientation : Vertical

Correct Marks : 2 Wrong Marks : 0

The leadership and executive role in higher education system in respect of state universities of India is assigned to :

Options :

Chancellor of the University

91394385985.

Vice-Chancellor of the University

91394385986.

Deans of Faculties

91394385987.

Dean of Studies

91394385988.

Question Number : 47 Question Id : 91394321893 Question Type : MCQ Option Shuffling : Yes Display Question Number : Yes
Single Line Question Option : No Option Orientation : Vertical

Correct Marks : 2 Wrong Marks : 0

भारत में राज्यों के विश्वविद्यालयों की उच्च शिक्षा प्रणाली में नेतृत्वात्मक और कार्यपालक भूमिका किसे दी गई है?

Options :

विश्वविद्यालय के कुलाधिपति

91394385985.

विश्वविद्यालय के कुलपति

91394385986.

संकाय प्रमुख

91394385987.

अध्ययन केंद्र प्रमुख

91394385988.

Question Number : 48 Question Id : 91394321894 Question Type : MCQ Option Shuffling : Yes Display Question Number : Yes
Single Line Question Option : No Option Orientation : Vertical

Correct Marks : 2 Wrong Marks : 0

The formal authority for approving the University level courses vests in :

Options :

91394385989. The Academic Council

91394385990. The University Court

91394385991. The Executive Council

91394385992. The Research Degree Committee

Question Number : 48 Question Id : 91394321894 Question Type : MCQ Option Shuffling : Yes Display Question Number : Yes
Single Line Question Option : No Option Orientation : Vertical

Correct Marks : 2 Wrong Marks : 0

विश्वविद्यालय स्तरीय पाठ्यक्रमों के अनुमोदन के लिए औपचारिक प्राधिकारी है :

Options :

91394385989. विद्या परिषद्

91394385990. विश्वविद्यालय कोर्ट

91394385991. कार्य परिषद्

91394385992. शोध उपाधि समिति

Question Number : 49 Question Id : 91394321895 Question Type : MCQ Option Shuffling : Yes Display Question Number : Yes
Single Line Question Option : No Option Orientation : Vertical

Correct Marks : 2 Wrong Marks : 0

For promoting human values through College/University programmes which one of the following leadership styles would be the most appropriate ?

Options :

91394385993. Directive Leadership Style

91394385994. Participative Leadership Style

91394385995. Consultative Leadership Style

Delegating Leadership Style

91394385996.

Question Number : 49 Question Id : 91394321895 Question Type : MCQ Option Shuffling : Yes Display Question Number : Yes
Single Line Question Option : No Option Orientation : Vertical

Correct Marks : 2 Wrong Marks : 0

विद्यालय/विश्वविद्यालय कार्यक्रमों के माध्यम से मानवीय मूल्यों के संवर्धन के लिए निर्मांकित में से कौन सी नेतृत्व शैली सर्वाधिक उपयुक्त होगी ?

Options :

निदेशात्मक नेतृत्व शैली

91394385993.

प्रतिभाग आधारित नेतृत्व शैली

91394385994.

परामर्शात्मक नेतृत्व शैली

91394385995.

प्रत्यायोजनात्मक नेतृत्व शैली

91394385996.

Question Number : 50 Question Id : 91394321896 Question Type : MCQ Option Shuffling : Yes Display Question Number : Yes
Single Line Question Option : No Option Orientation : Vertical

Correct Marks : 2 Wrong Marks : 0

A post-graduate degree holder student with 55% marks intends to pursue research for the award of Ph.D. degree. What will be the formal requirements in this regard ? To indicate your **correct** answer choose from the code given below :

- (a) Appearing in an admission test of a university
- (b) Attending a coaching institute
- (c) Consulting an expert teacher
- (d) Submitting an application for enrollment
- (e) Submitting a proposal for the research
- (f) Discussing the research proposal with a peer group
- (g) Getting the opinion of the experts on the research theme
- (h) Getting the proposal approved by the relevant body of the university
- (i) Attending mandatory course work

Code :

Options :

(a), (d), (e), (h) and (i)

91394385997.

(b), (c), (f) and (i)

91394385998.

(c), (e), (g) and (h)

91394385999.

(d), (f), (h) and (i)

91394386000.

Question Number : 50 Question Id : 91394321896 Question Type : MCQ Option Shuffling : Yes Display Question Number : Yes
Single Line Question Option : No Option Orientation : Vertical

Correct Marks : 2 Wrong Marks : 0

55% अंकों वाला एक स्नातकोत्तर उत्तीर्ण छात्र पी.एच.डी. उपाधि प्राप्त करने के लिए शोध करना चाहता है। इसके लिए औपचारिक आवश्यकतायें क्या होंगी? नीचे दिए गए कूट में से सही उत्तर चुनें :

- (a) किसी विश्वविद्यालय की नामांकन परीक्षा में बैठना
- (b) एक कोचिंग संस्थान में जाना
- (c) एक विशेषज्ञ शिक्षक से सलाह लेना
- (d) नामांकन के लिए आवेदन प्रस्तुत करना
- (e) शोध के लिए प्रस्ताव प्रस्तुत करना
- (f) एक सहपाठी समूह के साथ शोध प्रस्ताव पर चर्चा करना
- (g) शोध के विषय पर विशेषज्ञों की राय लेना
- (h) विश्वविद्यालय के संगत निकाय द्वारा प्रस्ताव को अनुमोदित कराना
- (i) अनिवार्य पाठ्यक्रम कार्य में भाग लेना

कूट :

Options :

91394385997. (a), (d), (e), (h) और (i)

91394385998. (b), (c), (f) और (i)

91394385999. (c), (e), (g) और (h)

91394386000. (d), (f), (h) और (i)

Paper II

Group Number :

2

Group Id :

913943288

Group Maximum Duration :

120

Group Minimum Duration :

120

Revisit allowed for view? :

No

Revisit allowed for edit? :

No

Break time: 0
Group Marks: 200

98 Percussion Instruments

Section Id : 913943288
Section Number : 1
Section type : Online
Mandatory or Optional: Mandatory
Number of Questions: 100
Number of Questions to be attempted: 100
Section Marks: 200
Display Number Panel: Yes
Group All Questions: No

Sub-Section Number: 1
Sub-Section Id: 9139431174
Question Shuffling Allowed : Yes

Question Number : 51 Question Id : 91394321897 Question Type : MCQ Option Shuffling : Yes Display Question Number : Yes
Single Line Question Option : No Option Orientation : Vertical
Correct Marks : 2 Wrong Marks : 0

After which of the following matras, one Āvartan of Biadi Laya of Theka of Jhaptāl will start ?

Options :

91394386001. $4\frac{2}{7}$

91394386002. $4\frac{4}{7}$

91394386003. $4\frac{3}{7}$

91394386004. $4\frac{6}{7}$

Question Number : 51 Question Id : 91394321897 Question Type : MCQ Option Shuffling : Yes Display Question Number : Yes
Single Line Question Option : No Option Orientation : Vertical
Correct Marks : 2 Wrong Marks : 0

झपताल के ठेके की बिआड़ी लय का एक आवर्तन उसी ताल में किस मात्रा के पश्चात प्रारम्भ होगा ?

Options :

91394386001. $4\frac{2}{7}$

91394386002. $4\frac{4}{7}$

91394386003. $4\frac{3}{7}$

91394386004. $4\frac{6}{7}$

Question Number : 52 Question Id : 91394321898 Question Type : MCQ Option Shuffling : Yes Display Question Number : Yes
Single Line Question Option : No Option Orientation : Vertical
Correct Marks : 2 Wrong Marks : 0

How many Varnas will Nauhakka consist of in Rudratāl ?

Options :

91394386005. 5

91394386006. 4

91394386007. 6

91394386008. 7

Question Number : 52 Question Id : 91394321898 Question Type : MCQ Option Shuffling : Yes Display Question Number : Yes
Single Line Question Option : No Option Orientation : Vertical
Correct Marks : 2 Wrong Marks : 0

रुद्र ताल में नौहक्का कितने वर्णों का होगा ?

Options :

91394386005. 5

91394386006. 4

91394386007. 6

91394386008. 7

Question Number : 53 Question Id : 91394321899 Question Type : MCQ Option Shuffling : Yes Display Question Number : Yes
Single Line Question Option : No Option Orientation : Vertical
Correct Marks : 2 Wrong Marks : 0

'Dhi-kd' bol is mostly used in the Gatas of which of the following gharanas ?

Options :

91394386009. Punjab

91394386010. Benares

91394386011. Farrukhabad

91394386012. Ajrada

Question Number : 53 Question Id : 91394321899 Question Type : MCQ Option Shuffling : Yes Display Question Number : Yes
Single Line Question Option : No Option Orientation : Vertical

Correct Marks : 2 Wrong Marks : 0

‘धीऽब्ड’ बोल किस घराने की गतों में सर्वाधिक प्रयोग होता है ?

Options :

91394386009. पंजाब

91394386010. बनारस

91394386011. फर्रुखाबाद

91394386012. अजराड़ा

Question Number : 54 Question Id : 91394321900 Question Type : MCQ Option Shuffling : Yes Display Question Number : Yes
Single Line Question Option : No Option Orientation : Vertical

Correct Marks : 2 Wrong Marks : 0

Match List-I with List-II and select the correct answer using the code given below.

List I

List II

- | | |
|-----------------------------|----------|
| (a) Trayashrajati Druvtal | (i) 7 |
| (b) Trayashrajati Mathyatal | (ii) 8 |
| (c) Trayashrajati Rupaktal | (iii) 11 |
| (d) Trayashrajati Triputtal | (iv) 5 |

Code :

Options :

91394386013. (a)–(iii), (b)–(ii), (c)–(i), (d)–(iv)

91394386014. (a)–(iii), (b)–(i), (c)–(ii), (d)–(iv)

91394386015. (a)–(iii), (b)–(ii), (c)–(iv), (d)–(i)

91394386016. (a)–(i), (b)–(ii), (c)–(iii), (d)–(iv)

Question Number : 54 Question Id : 91394321900 Question Type : MCQ Option Shuffling : Yes Display Question Number : Yes
Single Line Question Option : No Option Orientation : Vertical

Correct Marks : 2 Wrong Marks : 0

सूची-I और सूची-II को सुमेलित कीजिए और नीचे दिए गए कूट का उपयोग कर सही उत्तर दीजिए :

सूची I	सूची II
(a) त्र्यश्रजाती ध्रुवताल	(i) 7
(b) त्र्यश्रजाती मध्यताल	(ii) 8
(c) त्र्यश्रजाती रूपकताल	(iii) 11
(d) त्र्यश्रजाती त्रिपुटताल	(iv) 5

कूट :

Options :

91394386013. (a)–(iii), (b)–(ii), (c)–(i), (d)–(iv)

91394386014. (a)–(iii), (b)–(i), (c)–(ii), (d)–(iv)

91394386015. (a)–(iii), (b)–(ii), (c)–(iv), (d)–(i)

91394386016. (a)–(i), (b)–(ii), (c)–(iii), (d)–(iv)

Question Number : 55 Question Id : 91394321901 Question Type : MCQ Option Shuffling : Yes Display Question Number : Yes
Single Line Question Option : No Option Orientation : Vertical

Correct Marks : 2 Wrong Marks : 0

If Rupak Tāl is played from sama to sama in Ganesh tāl (21 matras), which Layakaari will occur ?

Options :

91394386017. $\frac{1}{4}$

91394386018. $\frac{1}{2}$

91394386019. $\frac{1}{5}$

91394386020. $\frac{1}{3}$

Question Number : 55 Question Id : 91394321901 Question Type : MCQ Option Shuffling : Yes Display Question Number : Yes
Single Line Question Option : No Option Orientation : Vertical

Correct Marks : 2 Wrong Marks : 0

‘गणेश ताल’ (21 मात्रा) में ‘रूपक ताल’ सम से सम तक बजाने पर कौन-सी लयकारी होगी ?

Options :

91394386017. $\frac{1}{4}$

91394386018. $\frac{1}{2}$

91394386019. $\frac{1}{5}$

91394386020. $\frac{1}{3}$

Question Number : 56 Question Id : 91394321902 Question Type : MCQ Option Shuffling : Yes Display Question Number : Yes
Single Line Question Option : No Option Orientation : Vertical

Correct Marks : 2 Wrong Marks : 0

Choose the correct sequence of Tabla Players of the 19th century according to their birth in the ascending order.

Options :

91394386021. Allah Diya Khan Amaravati wale, Munir Khan, Ahmed Jaan, Amir Hussain

91394386022. Ahmed Jaan, Amir Hussain, Munir Khan, Allah Diya Khan Amaravati wale

91394386023. Amir Hussain, Ahmed Jaan, Allah Diya Khan Amaravati wale, Munir Khan

91394386024. Munir Khan, Allah Diya Khan Amaravati wale, Ahmed Jaan, Amir Hussain

Question Number : 56 Question Id : 91394321902 Question Type : MCQ Option Shuffling : Yes Display Question Number : Yes
Single Line Question Option : No Option Orientation : Vertical

Correct Marks : 2 Wrong Marks : 0

कालक्रमानुसार उन्नीसवीं शताब्दी के तबला-वादकों को उनके जन्मानुसार लिखिए ।

Options :

91394386021. अल्ला दिया खाँ अमरावती वाले, मुनीर खाँ, अहमद जान, अमीर हुसैन

91394386022. अहमद जान, अमीर हुसैन, मुनीर खाँ, अल्ला दिया खाँ अमरावती वाले

91394386023. अमीर हुसैन, अहमद जान, अल्ला दिया खाँ अमरावती वाले, मुनीर खाँ

91394386024. मुनीर खाँ, अल्ला दिया खाँ अमरावती वाले, अहमद जान, अमीर हुसैन

Question Number : 57 Question Id : 91394321903 Question Type : MCQ Option Shuffling : Yes Display Question Number : Yes
Single Line Question Option : No Option Orientation : Vertical

Correct Marks : 2 Wrong Marks : 0

Which of the following Tāl is different from others ?

Options :

91394386025. Mani

91394386026. Ashta Mangal

91394386027. Rās

91394386028. Kumbh

Question Number : 57 Question Id : 91394321903 Question Type : MCQ Option Shuffling : Yes Display Question Number : Yes
Single Line Question Option : No Option Orientation : Vertical

Correct Marks : 2 Wrong Marks : 0

निम्नलिखित में से कौन-सा ताल भिन्न है ?

Options :

91394386025. मणि

91394386026. अष्ट मंगल

91394386027. रास

91394386028. कुम्भ

Question Number : 58 Question Id : 91394321904 Question Type : MCQ Option Shuffling : Yes Display Question Number : Yes
Single Line Question Option : No Option Orientation : Vertical

Correct Marks : 2 Wrong Marks : 0

The author of the book of "Solo Tabla Drumming of North India" is

Options :

91394386029. James Kippen

91394386030. Sadanand Nayampalli

91394386031. Robert Gottlieb

Zakir Hussain

91394386032.

Question Number : 58 Question Id : 91394321904 Question Type : MCQ Option Shuffling : Yes Display Question Number : Yes
Single Line Question Option : No Option Orientation : Vertical

Correct Marks : 2 Wrong Marks : 0

“सोलो तबला ड्रमिंग ऑफ नॉर्थ इण्डिया” पुस्तक के लेखक हैं

Options :

जेम्स किप्पन

91394386029.

सदानंद नायमपल्ली

91394386030.

रॉबर्ट गॉदलिब

91394386031.

जाकिर हुसैन

91394386032.

Question Number : 59 Question Id : 91394321905 Question Type : MCQ Option Shuffling : Yes Display Question Number : Yes
Single Line Question Option : No Option Orientation : Vertical

Correct Marks : 2 Wrong Marks : 0

‘Dhāṣṣ ṣdhiṣ ṣṣna ṣṣṣ’ is the Laykaari

Options :

$\frac{3}{4}$

91394386033.

$\frac{4}{3}$

91394386034.

$\frac{2}{4}$

91394386035.

$\frac{1}{2}$

91394386036.

Question Number : 59 Question Id : 91394321905 Question Type : MCQ Option Shuffling : Yes Display Question Number : Yes
Single Line Question Option : No Option Orientation : Vertical

Correct Marks : 2 Wrong Marks : 0

‘Dhāṣṣ ṣdhiṣ ṣṣna ṣṣṣ’ लयकारी है

Options :

$\frac{3}{4}$

91394386033.

91394386034. $\frac{4}{3}$

91394386035. $\frac{2}{4}$

91394386036. $\frac{1}{2}$

Question Number : 60 Question Id : 91394321906 Question Type : MCQ Option Shuffling : Yes Display Question Number : Yes
Single Line Question Option : No Option Orientation : Vertical

Correct Marks : 2 Wrong Marks : 0

| Tita | Katā | Gadi | Gana |

5 0 6 0

is a part of which of the following Tālas ?

Options :

91394386037. Shikhar

91394386038. Sultal

91394386039. Gaj Jhampa

91394386040. Vasant

Question Number : 60 Question Id : 91394321906 Question Type : MCQ Option Shuffling : Yes Display Question Number : Yes
Single Line Question Option : No Option Orientation : Vertical

Correct Marks : 2 Wrong Marks : 0

| तिट | कता | गदि | गन | किस ताल का अंश है ?

5 0 6 0

Options :

91394386037. शिखर

91394386038. सूलताल

91394386039. गजझंपा

91394386040. वसंत

Question Number : 61 Question Id : 91394321907 Question Type : MCQ Option Shuffling : Yes Display Question Number : Yes
Single Line Question Option : No Option Orientation : Vertical

Correct Marks : 2 Wrong Marks : 0

Which of the following Tālas does **not** have Khaali ?

Options :

91394386041. Pancham Savari

91394386042. Shikhar

91394386043. Sultāl

91394386044. Rudra

Question Number : 61 Question Id : 91394321907 Question Type : MCQ Option Shuffling : Yes Display Question Number : Yes
Single Line Question Option : No Option Orientation : Vertical

Correct Marks : 2 Wrong Marks : 0

निम्न में से किस ताल में खाली नहीं है ?

Options :

91394386041. पंचम सवारी

91394386042. शिखर

91394386043. सूलताल

91394386044. रुद्र

Question Number : 62 Question Id : 91394321908 Question Type : MCQ Option Shuffling : Yes Display Question Number : Yes
Single Line Question Option : No Option Orientation : Vertical

Correct Marks : 2 Wrong Marks : 0

Which of the following is a Karnatakiya Percussion instrument ?

Options :

91394386045. Timila

91394386046. Brahmtal

91394386047. Maddalam

91394386048. Chintāl

Question Number : 62 Question Id : 91394321908 Question Type : MCQ Option Shuffling : Yes Display Question Number : Yes
Single Line Question Option : No Option Orientation : Vertical

Correct Marks : 2 Wrong Marks : 0

निम्न में से कर्नाटकीय अवनद्ध बाद्य है

Options :

91394386045. तिमिला

91394386046. ब्रह्मताल

91394386047. मद्दलम

91394386048. चिनताल

Question Number : 63 Question Id : 91394321909 Question Type : MCQ Option Shuffling : Yes Display Question Number : Yes
Single Line Question Option : No Option Orientation : Vertical

Correct Marks : 2 Wrong Marks : 0

According to Sangeet Ratnakar, the basic components of Tāl structure are

Options :

91394386049. 9

91394386050. 10

91394386051. 8

91394386052. 7

Question Number : 63 Question Id : 91394321909 Question Type : MCQ Option Shuffling : Yes Display Question Number : Yes
Single Line Question Option : No Option Orientation : Vertical

Correct Marks : 2 Wrong Marks : 0

संगीत रत्नाकर के अनुसार ताल संरचना के मूलभूत आधारों की संख्या है

Options :

91394386049. 9

91394386050. 10

91394386051. 8


91394386052. 7


Question Number : 64 Question Id : 91394321910 Question Type : MCQ Option Shuffling : Yes Display Question Number : Yes
Single Line Question Option : No Option Orientation : Vertical

Correct Marks : 2 Wrong Marks : 0


The symbol for 'quaver' in Western music is

Options :

91394386053. 

91394386054. 

91394386055. 

91394386056. 


Question Number : 64 Question Id : 91394321910 Question Type : MCQ Option Shuffling : Yes Display Question Number : Yes
Single Line Question Option : No Option Orientation : Vertical

Correct Marks : 2 Wrong Marks : 0

पश्चात्य संगीत में 'क्वेवर' का चिह्न है

Options :

91394386053. 

91394386054. 

91394386055. 

91394386056. 

Question Number : 65 Question Id : 91394321911 Question Type : MCQ Option Shuffling : Yes Display Question Number : Yes
Single Line Question Option : No Option Orientation : Vertical

Correct Marks : 2 Wrong Marks : 0

What is the similarity between ancient Udaghatt and present Rupak tāl ?

Options :

91394386057. The matra-kaal of both is similar.

91394386058. Both are used with Dhrupad.

91394386059. On the first matra of both is Khaali.

91394386060. Both are used with Ghazal.

Question Number : 65 Question Id : 91394321911 Question Type : MCQ Option Shuffling : Yes Display Question Number : Yes
Single Line Question Option : No Option Orientation : Vertical

Correct Marks : 2 Wrong Marks : 0

प्राचीन उद्घट्ट और वर्तमान रूपक ताल में क्या समानता है ?

Options :

91394386057. दोनों का मात्रा-काल समान है ।
91394386058. दोनों का प्रयोग ध्रुपद के साथ होना है ।
91394386059. दोनों में प्रथम मात्रा पर खाली है ।
91394386060. दोनों का प्रयोग गज़ल के साथ होता है ।

Question Number : 66 Question Id : 91394321912 Question Type : MCQ Option Shuffling : Yes Display Question Number : Yes
Single Line Question Option : No Option Orientation : Vertical

Correct Marks : 2 Wrong Marks : 0

Alamban and Uddipan are the types of :

Options :

91394386061. Anubhav
91394386062. Vibhav
91394386063. Sanchāri
91394386064. Sthayi bhāv

Question Number : 66 Question Id : 91394321912 Question Type : MCQ Option Shuffling : Yes Display Question Number : Yes
Single Line Question Option : No Option Orientation : Vertical

Correct Marks : 2 Wrong Marks : 0

आलम्बन और उद्दीपन किसके प्रकार हैं ?

Options :

91394386061. अनुभाव
91394386062. विभाव
91394386063. संचारी
91394386064. स्थायी भाव

Question Number : 67 Question Id : 91394321913 Question Type : MCQ Option Shuffling : Yes Display Question Number : Yes
Single Line Question Option : No Option Orientation : Vertical

Correct Marks : 2 Wrong Marks : 0

Which of the following is **not** a type of Vadya 'Upang' ?

Options :

91394386065. Khangam

91394386066. Nas-Tarang

91394386067. Bheri

91394386068. Tantri Pathika

Question Number : 67 Question Id : 91394321913 Question Type : MCQ Option Shuffling : Yes Display Question Number : Yes
Single Line Question Option : No Option Orientation : Vertical

Correct Marks : 2 Wrong Marks : 0

निम्नलिखित में से कौन-सा वाद्य 'उपंग' का प्रकार **नहीं** है ?

Options :

91394386065. खंगम

91394386066. नस-तरंग

91394386067. भेरी

91394386068. तन्त्री पटहिका

Question Number : 68 Question Id : 91394321914 Question Type : MCQ Option Shuffling : Yes Display Question Number : Yes
Single Line Question Option : No Option Orientation : Vertical

Correct Marks : 2 Wrong Marks : 0

Given below are two statements, one labelled as Assertion (A) and the other labelled as Reason (R). Read the statements and choose the correct answer using the code given below.

Assertion (A) : The simultaneous beginning of Geet and Tāl is called 'Samagrah'.

Reason (R) : Bharat described Grah and Pani as synonyms.

Code :

Options :

91394386069. (A) is true, but (R) is false.

91394386070. (A) is false, but (R) is true.

91394386071. (A) and (R) both are true.

91394386072. (A) and (R) both are false.

Question Number : 68 Question Id : 91394321914 Question Type : MCQ Option Shuffling : Yes Display Question Number : Yes
Single Line Question Option : No Option Orientation : Vertical

Correct Marks : 2 Wrong Marks : 0

नीचे दो कथन दिए गए हैं, जिनमें से एक अभिकथन (A) है और दूसरा तर्क (R) है। कथनों को पढ़िए और नीचे दिए गए कूट का प्रयोग कर सही उत्तर चुनिए।

अभिकथन (A) : गीत और ताल का प्रारंभ एक साथ होने पर उसे 'समग्रह' कहते हैं।

तर्क (R) : भरत ने ग्रह और पाणि को समानार्थक माना है।

कूट :

Options :

91394386069. (A) सही है, परन्तु (R) ग़लत है।

91394386070. (A) ग़लत है, परन्तु (R) सही है।

91394386071. (A) और (R) दोनों सही हैं।

91394386072. (A) और (R) दोनों ग़लत हैं।

Question Number : 69 Question Id : 91394321915 Question Type : MCQ Option Shuffling : Yes Display Question Number : Yes
Single Line Question Option : No Option Orientation : Vertical

Correct Marks : 2 Wrong Marks : 0

After which of the following matras, the Aad Laya of Tāl Dadra and Manitāl in one Āavartan of Yati Shikhar Tāl will start ?

Options :

91394386073. $3\frac{3}{3}$

91394386074. $3\frac{1}{3}$

91394386075. $2\frac{2}{3}$

91394386076. $3\frac{2}{3}$

Question Number : 69 Question Id : 91394321915 Question Type : MCQ Option Shuffling : Yes Display Question Number : Yes
Single Line Question Option : No Option Orientation : Vertical

Correct Marks : 2 Wrong Marks : 0

यदि शिखर ताल के एक आवर्तन में ताल दादरा तथा मणि ताल की आड़ लय किस मात्रा के पश्चात प्रारम्भ होगी ?

Options :

91394386073. $3\frac{3}{3}$

91394386074. $3\frac{1}{3}$

91394386075. $2\frac{2}{3}$

91394386076. $3\frac{2}{3}$

Question Number : 70 Question Id : 91394321916 Question Type : MCQ Option Shuffling : Yes Display Question Number : Yes
Single Line Question Option : No Option Orientation : Vertical

Correct Marks : 2 Wrong Marks : 0

In ancient text, Tāli with left hand to right hand is called :

Options :

91394386077. Sannipat

91394386078. Shamyā

91394386079. Dhruva

91394386080. Tāl

Question Number : 70 Question Id : 91394321916 Question Type : MCQ Option Shuffling : Yes Display Question Number : Yes
Single Line Question Option : No Option Orientation : Vertical

Correct Marks : 2 Wrong Marks : 0

बायें हाथ से दाहिने हाथ पर ताली देने की क्रिया को शास्त्र में क्या कहा जाता है ?

Options :

91394386077. सन्निपात

91394386078. शम्या

91394386079. ध्रुवा

91394386080. ताल

Question Number : 71 Question Id : 91394321917 Question Type : MCQ Option Shuffling : Yes Display Question Number : Yes
Single Line Question Option : No Option Orientation : Vertical
Correct Marks : 2 Wrong Marks : 0

After which of the following matras, one Āvartan of Kuadi Laya of Theka of Tappa Tāl will start in the same tāl ?

Options :

91394386081. $3\frac{3}{5}$

91394386082. $3\frac{2}{5}$

91394386083. $2\frac{1}{5}$

91394386084. $3\frac{1}{5}$

Question Number : 71 Question Id : 91394321917 Question Type : MCQ Option Shuffling : Yes Display Question Number : Yes
Single Line Question Option : No Option Orientation : Vertical
Correct Marks : 2 Wrong Marks : 0

टप्पा ताल के ठेके की कुआड़ी लय का एक आवर्तन उसी ताल में किस मात्रा के पश्चात प्रारम्भ होगा ?

Options :

91394386081. $3\frac{3}{5}$

91394386082. $3\frac{2}{5}$

91394386083. $2\frac{1}{5}$

91394386084. $3\frac{1}{5}$

Question Number : 72 Question Id : 91394321918 Question Type : MCQ Option Shuffling : Yes Display Question Number : Yes
Single Line Question Option : No Option Orientation : Vertical
Correct Marks : 2 Wrong Marks : 0

One bedam Tihai from ' kati ta,ka Tita Dha ' will occur in which Tāl ?

Options :

91394386085. Dhamar

91394386086. Choutal

91394386087. Sooltal

91394386088. Tivra

Question Number : 72 Question Id : 91394321918 Question Type : MCQ Option Shuffling : Yes Display Question Number : Yes
Single Line Question Option : No Option Orientation : Vertical

Correct Marks : 2 Wrong Marks : 0

‘ कति ट,क तिट धा ’ से एक बेदम तिहाई किस ताल में आयेगी ?

Options :

91394386085. धमार

91394386086. चौताल

91394386087. सूलताल

91394386088. तीव्रा

Question Number : 73 Question Id : 91394321919 Question Type : MCQ Option Shuffling : Yes Display Question Number : Yes
Single Line Question Option : No Option Orientation : Vertical

Correct Marks : 2 Wrong Marks : 0

Which of the following Laykaaris will be produced from reciting the Theka of Laxmital in Kaharva Tal from sam to sam ?

Options :

91394386089. Savadugun

91394386090. Savagun

91394386091. Paunedugun

91394386092. Paungun

Question Number : 73 Question Id : 91394321919 Question Type : MCQ Option Shuffling : Yes Display Question Number : Yes
Single Line Question Option : No Option Orientation : Vertical

Correct Marks : 2 Wrong Marks : 0

कहरवा ताल में लक्ष्मी ताल का ठेका सम से सम तक बोलने पर कौन-सी लयकारी प्राप्त होगी ?

Options :

91394386089. सवादुगुन

91394386090. सवागुन

91394386091. पौनेदुगुन

91394386092. पौनगुन

Question Number : 74 Question Id : 91394321920 Question Type : MCQ Option Shuffling : Yes Display Question Number : Yes
Single Line Question Option : No Option Orientation : Vertical

Correct Marks : 2 Wrong Marks : 0

Given below are two statements, one labelled as Assertion (A) and the other labelled as Reason (R). Read the statements and choose the correct answer using the code given below.

Assertion (A) : All Gharanas of Tabla have the tradition of Gatas.

Reason (R) : Maximum Gatas are played in Delhi Gharana of Tabla.

Code :

Options :

91394386093. (A) and (R) both are true.

91394386094. (A) and (R) both are false.

91394386095. (A) is true, but (R) is false.

91394386096. (A) is false, but (R) is true.

Question Number : 74 Question Id : 91394321920 Question Type : MCQ Option Shuffling : Yes Display Question Number : Yes
Single Line Question Option : No Option Orientation : Vertical

Correct Marks : 2 Wrong Marks : 0

नीचे दो कथन दिए गए हैं, जिनमें से एक अभिकथन (A) है और दूसरा तर्क (R) है। कथनों को पढ़िए और नीचे दिए गए कूट का प्रयोग कर सही उत्तर चुनिए।

अभिकथन (A) : गतों का प्रचलन तबले के सभी घरानों में है।

तर्क (R) : तबले के दिल्ली घराने में सर्वाधिक गतों का वादन होता है।

कूट :

Options :

91394386093. (A) तथा (R) दोनों सही हैं।

91394386094. (A) तथा (R) दोनों गलत हैं ।

91394386095. (A) सही है, परन्तु (R) गलत है ।

91394386096. (A) गलत है, परन्तु (R) सही है ।

Question Number : 75 Question Id : 91394321921 Question Type : MCQ Option Shuffling : Yes Display Question Number : Yes
Single Line Question Option : No Option Orientation : Vertical

Correct Marks : 2 Wrong Marks : 0

Which kind of composition is “Dhagena Dhatraka Dhikita Dha-ge-na Dhatraka Dhikita Ghinatināgīna” ?

Options :

91394386097. Baant

91394386098. Kayada

91394386099. Gat Kayada

91394386100. Chalan

Question Number : 75 Question Id : 91394321921 Question Type : MCQ Option Shuffling : Yes Display Question Number : Yes
Single Line Question Option : No Option Orientation : Vertical

Correct Marks : 2 Wrong Marks : 0

“धागेन धात्रक धिकिट धागेन धात्रक धिकिट धिनतिनागीन” किस प्रकार की रचना है ?

Options :

91394386097. बाँट

91394386098. कायदा

91394386099. गत कायदा

91394386100. चलन

Question Number : 76 Question Id : 91394321922 Question Type : MCQ Option Shuffling : Yes Display Question Number : Yes
Single Line Question Option : No Option Orientation : Vertical

Correct Marks : 2 Wrong Marks : 0

Match List-I with List-II and select the correct answer using the code given below.

List I

List II

- | | |
|-------------|---------------|
| (a) Nakhaj | (i) Ghungru |
| (b) Vayuj | (ii) Chenda |
| (c) Charmaj | (iii) Bansuri |
| (d) Lohaj | (iv) Sarangi |

Code :

Options :

91394386101. (a)–(iv), (b)–(iii), (c)–(i), (d)–(ii)

91394386102. (a)–(iv), (b)–(ii), (c)–(i), (d)–(iii)

91394386103. (a)–(iv), (b)–(iii), (c)–(ii), (d)–(i)

91394386104. (a)–(ii), (b)–(iv), (c)–(iii), (d)–(i)

Question Number : 76 Question Id : 91394321922 Question Type : MCQ Option Shuffling : Yes Display Question Number : Yes
Single Line Question Option : No Option Orientation : Vertical

Correct Marks : 2 Wrong Marks : 0

सूची-I और सूची-II को सुमेलित कीजिए और नीचे दिए गए कूट का उपयोग कर सही उत्तर दीजिए :

सूची I

सूची II

- | | |
|-----------|---------------|
| (a) नखज | (i) घुंघरू |
| (b) वायुज | (ii) चेण्डा |
| (c) चर्मज | (iii) बांसुरी |
| (d) लोहज | (iv) सारंगी |

कूट :

Options :

91394386101. (a)–(iv), (b)–(iii), (c)–(i), (d)–(ii)

91394386102. (a)–(iv), (b)–(ii), (c)–(i), (d)–(iii)

91394386103. (a)–(iv), (b)–(iii), (c)–(ii), (d)–(i)

91394386104. (a)–(ii), (b)–(iv), (c)–(iii), (d)–(i)

Question Number : 77 Question Id : 91394321923 Question Type : MCQ Option Shuffling : Yes Display Question Number : Yes
Single Line Question Option : No Option Orientation : Vertical

Correct Marks : 2 Wrong Marks : 0

Who is the author of Book 'Sangeet Mein Tihaiyan' ?

Options :

91394386105. Radha Raman Sharma

91394386106. Vinod Vallabh Sharma

91394386107. Acharya Girish Chandra Shrivastava

91394386108. Bhagwat Sharan Sharma

Question Number : 77 Question Id : 91394321923 Question Type : MCQ Option Shuffling : Yes Display Question Number : Yes
Single Line Question Option : No Option Orientation : Vertical

Correct Marks : 2 Wrong Marks : 0

‘संगीत में तिहाइयाँ’ पुस्तक के लेखक कौन हैं ?

Options :

91394386105. राधा रमण शर्मा

91394386106. विनोद वल्लभ शर्मा

91394386107. आचार्य गिरीश चन्द्र श्रीवास्तव

91394386108. भगवत शरण शर्मा

Question Number : 78 Question Id : 91394321924 Question Type : MCQ Option Shuffling : Yes Display Question Number : Yes
Single Line Question Option : No Option Orientation : Vertical

Correct Marks : 2 Wrong Marks : 0

After which of the following matras, Dugun and Chaugun in one Āvartan of Kaid Farodast
Tāl will start ?

Options :

91394386109. $5\frac{3}{4}$

91394386110. $4\frac{3}{4}$

91394386111. $5\frac{3}{2}$

91394386112. $5\frac{2}{4}$

Question Number : 78 Question Id : 91394321924 Question Type : MCQ Option Shuffling : Yes Display Question Number : Yes
Single Line Question Option : No Option Orientation : Vertical

Correct Marks : 2 Wrong Marks : 0

क़ैद फ़रोदस्त ताल के एक आवर्तन में दुगुन व चौगुन मिलाकर किस मात्रा के पश्चात प्रारम्भ होगी ?

Options :

91394386109. $5\frac{3}{4}$

91394386110. $4\frac{3}{4}$

91394386111. $5\frac{3}{2}$

91394386112. $5\frac{2}{4}$

Question Number : 79 Question Id : 91394321925 Question Type : MCQ Option Shuffling : Yes Display Question Number : Yes
Single Line Question Option : No Option Orientation : Vertical

Correct Marks : 2 Wrong Marks : 0

Choose the correct sequence of Tabla players of the 20th century according to their birth year in the ascending order.

Options :

91394386113. Sudhir Kumar Saxena – Pandharinath Nageshkar – Anokhe Lal Mishra – Samta Prasad Mishra

91394386114. Samta Prasad Mishra – Pandharinath Nageshkar – Anokhe Lal Mishra – Sudhir Kumar Saxena

91394386115. Pandharinath Nageshkar – Anokhe Lal Mishra – Samta Prasad Mishra – Sudhir Kumar Saxena

91394386116. Anokhe Lal Mishra – Pandharinath Nageshkar – Samta Prasad Mishra – Sudhir Kumar Saxena

Question Number : 79 Question Id : 91394321925 Question Type : MCQ Option Shuffling : Yes Display Question Number : Yes
Single Line Question Option : No Option Orientation : Vertical

Correct Marks : 2 Wrong Marks : 0

कालक्रमानुसार बीसवीं शताब्दी के तबला-वादकों को जन्मानुसार क्रमबद्ध कीजिए ।

Options :

91394386113. सुधीर कुमार सक्सेना – पंढरीनाथ नागेशकर – अनोखे लाल मिश्र – साम्ता प्रसाद मिश्र

91394386114. साम्ता प्रसाद मिश्र – पंढरीनाथ नागेशकर – अनोखे लाल मिश्र – सुधीर कुमार सक्सेना

91394386115. पंढरीनाथ नागेशकर – अनोखे लाल मिश्र – साम्ता प्रसाद मिश्र – सुधीर कुमार सक्सेना

91394386116. अनोखे लाल मिश्र – पंढरीनाथ नागेशकर – साम्ता प्रसाद मिश्र – सुधीर कुमार सक्सेना

Question Number : 80 Question Id : 91394321926 Question Type : MCQ Option Shuffling : Yes Display Question Number : Yes
Single Line Question Option : No Option Orientation : Vertical

Correct Marks : 2 Wrong Marks : 0

| Tit Kata Gadi Gana |

5

is the part of which of the following Tālas ?

Options :

91394386117. Shikhar

91394386118. Chautal

91394386119. Gaj Jhampa

91394386120. Sultal

Question Number : 80 Question Id : 91394321926 Question Type : MCQ Option Shuffling : Yes Display Question Number : Yes
Single Line Question Option : No Option Orientation : Vertical

Correct Marks : 2 Wrong Marks : 0

|तिट कता गदि गन | किस ताल का अंश है ?

5

Options :

91394386117. शिखर

91394386118. चौताल

91394386119. गजझंपा

91394386120. सूलताल

Question Number : 81 Question Id : 91394321927 Question Type : MCQ Option Shuffling : Yes Display Question Number : Yes
Single Line Question Option : No Option Orientation : Vertical

Correct Marks : 2 Wrong Marks : 0

The author of the book "Theory and Practice of Tabla" is

Options :

91394386121. Pt. Sudhir Mainkar

91394386122. Pt. Vijay Shankar Mishra

91394386123. Pt. Chhote Lal Mishra

91394386124. Pt. Sadanand Nayampalli

Question Number : 81 Question Id : 91394321927 Question Type : MCQ Option Shuffling : Yes Display Question Number : Yes
Single Line Question Option : No Option Orientation : Vertical

Correct Marks : 2 Wrong Marks : 0

"थियरी एण्ड प्रेक्टिस ऑफ तबला" पुस्तक के लेखक हैं

Options :

91394386121. पं. सुधीर माईणकर

91394386122. पं. विजय शंकर मिश्र

91394386123. पं. छोटे लाल मिश्र

91394386124. पं. सदानंद नायमपल्ली

Question Number : 82 Question Id : 91394321928 Question Type : MCQ Option Shuffling : Yes Display Question Number : Yes
Single Line Question Option : No Option Orientation : Vertical

Correct Marks : 2 Wrong Marks : 0

One Avartan of Pashto, Dadra and Tivra Tāl's Kuadi comes in one Avartan of which Tāl ?

Options :

91394386125. Farodast

91394386126. Tintal

91394386127. Gaj Jhampa

91394386128. Sultal

Question Number : 82 Question Id : 91394321928 Question Type : MCQ Option Shuffling : Yes Display Question Number : Yes
Single Line Question Option : No Option Orientation : Vertical

Correct Marks : 2 Wrong Marks : 0

पशतो, दादरा तथा तीन्ना ताल की एक-एक आवर्तन कुआड़ी किस ताल के एक आवर्तन में आएगी ?

Options :

91394386125. फरोदस्त

91394386126. तीनताल

91394386127. गजझंपा

91394386128. सूलताल

Question Number : 83 Question Id : 91394321929 Question Type : MCQ Option Shuffling : Yes Display Question Number : Yes
Single Line Question Option : No Option Orientation : Vertical

Correct Marks : 2 Wrong Marks : 0

The total number of matras of (Akshar kaal) Mathya Tāl Sankirna Jāti is

Options :

91394386129. 18

91394386130. 19

91394386131. 20

91394386132. 21

Question Number : 83 Question Id : 91394321929 Question Type : MCQ Option Shuffling : Yes Display Question Number : Yes
Single Line Question Option : No Option Orientation : Vertical

Correct Marks : 2 Wrong Marks : 0

मद्य ताल संकीर्ण जाति की कुल मात्राएँ (अक्षर काल) हैं

Options :

91394386129. 18

91394386130. 19

91394386131. 20

91394386132. 21

Question Number : 84 Question Id : 91394321930 Question Type : MCQ Option Shuffling : Yes Display Question Number : Yes
Single Line Question Option : No Option Orientation : Vertical

Correct Marks : 2 Wrong Marks : 0

In which of the following Tālas Nauhakka of 9 varnas Bol samuh will occur ?

Options :

91394386133. Teen Tāl

91394386134. Jhaptāl

91394386135. Ektāl

91394386136. Rudratāl

Question Number : 84 Question Id : 91394321930 Question Type : MCQ Option Shuffling : Yes Display Question Number : Yes
Single Line Question Option : No Option Orientation : Vertical

Correct Marks : 2 Wrong Marks : 0

9 वर्णों के बोल समूह का नौहक्का किस ताल में आएगा ?

Options :

91394386133. तीन ताल

91394386134. झपताल

91394386135. एकताल

91394386136. रुद्रताल

Question Number : 85 Question Id : 91394321931 Question Type : MCQ Option Shuffling : Yes Display Question Number : Yes
Single Line Question Option : No Option Orientation : Vertical

Correct Marks : 2 Wrong Marks : 0

In which of the chapters of Natyashastra, percussion instruments have been described ?

Options :

91394386137. Chapter 28

91394386138. Chapter 29

Chapter 32

91394386139.

Chapter 33

91394386140.

Question Number : 85 Question Id : 91394321931 Question Type : MCQ Option Shuffling : Yes Display Question Number : Yes
Single Line Question Option : No Option Orientation : Vertical

Correct Marks : 2 Wrong Marks : 0

नाट्यशास्त्र के किस अध्याय में अवनद्ध वाद्यों का वर्णन किया गया है ?

Options :

अध्याय 28

91394386137.

अध्याय 29

91394386138.

अध्याय 32

91394386139.

अध्याय 33

91394386140.

Question Number : 86 Question Id : 91394321932 Question Type : MCQ Option Shuffling : Yes Display Question Number : Yes
Single Line Question Option : No Option Orientation : Vertical

Correct Marks : 2 Wrong Marks : 0

According to Chhandshastra 'varna' having anuswar will be

Options :

Guru

91394386141.

Laghu

91394386142.

Plut

91394386143.

Kakpad

91394386144.

Question Number : 86 Question Id : 91394321932 Question Type : MCQ Option Shuffling : Yes Display Question Number : Yes
Single Line Question Option : No Option Orientation : Vertical

Correct Marks : 2 Wrong Marks : 0

छंद शास्त्र के अनुसार 'अनुस्वार' युक्त वर्ण होगा

Options :

गुरु

91394386141.

91394386142. लघु

91394386143. प्लुत

91394386144. काकपद

Question Number : 87 Question Id : 91394321933 Question Type : MCQ Option Shuffling : Yes Display Question Number : Yes
Single Line Question Option : No Option Orientation : Vertical

Correct Marks : 2 Wrong Marks : 0

Which one of the following margas is **not** mentioned in the Natya Shastra ?

Options :

91394386145. Dhruv

91394386146. Vartik

91394386147. Chitra

91394386148. Dakshin

Question Number : 87 Question Id : 91394321933 Question Type : MCQ Option Shuffling : Yes Display Question Number : Yes
Single Line Question Option : No Option Orientation : Vertical

Correct Marks : 2 Wrong Marks : 0

नाट्यशास्त्र में निम्न में से किस मार्ग का उल्लेख नहीं मिलता ?

Options :

91394386145. ध्रुव

91394386146. वार्तिक

91394386147. चित्र

91394386148. दक्षिण

Question Number : 88 Question Id : 91394321934 Question Type : MCQ Option Shuffling : Yes Display Question Number : Yes
Single Line Question Option : No Option Orientation : Vertical

Correct Marks : 2 Wrong Marks : 0

According to matragana, 'Katita' is

Options :

91394386149. Sarvaguru

91394386150. Antguru

91394386151. Madyaguru

91394386152. Sarvalaghu

Question Number : 88 Question Id : 91394321934 Question Type : MCQ Option Shuffling : Yes Display Question Number : Yes
Single Line Question Option : No Option Orientation : Vertical

Correct Marks : 2 Wrong Marks : 0

‘कतिट’ मात्रागण के अनुसार होगा

Options :

91394386149. सर्वगुरु

91394386150. अंतगुरु

91394386151. मध्यगुरु

91394386152. सर्वलघु

Question Number : 89 Question Id : 91394321935 Question Type : MCQ Option Shuffling : Yes Display Question Number : Yes
Single Line Question Option : No Option Orientation : Vertical

Correct Marks : 2 Wrong Marks : 0

‘Udwelit’ Ghan Vadya is

Options :

91394386153. Ghanti

91394386154. Jhanjh

91394386155. Tal

91394386156. Jhunjhuna

Question Number : 89 Question Id : 91394321935 Question Type : MCQ Option Shuffling : Yes Display Question Number : Yes
Single Line Question Option : No Option Orientation : Vertical

Correct Marks : 2 Wrong Marks : 0

उद्वेलत घन वलघ है

Options :

91394386153. घंटी

91394386154. झंझ

91394386155. तल

91394386156. झुनझुनल

Question Number : 90 Question Id : 91394321936 Question Type : MCQ Option Shuffling : Yes Display Question Number : Yes
Single Line Question Option : No Option Orientation : Vertical

Correct Marks : 2 Wrong Marks : 0

Tāl thekas are described as 'Peshkar' in

Options :

91394386157. Mridang Sagar

91394386158. Sarmaye Ishrat

91394386159. Mādnul Mosiki

91394386160. Sangit Sagar

Question Number : 90 Question Id : 91394321936 Question Type : MCQ Option Shuffling : Yes Display Question Number : Yes
Single Line Question Option : No Option Orientation : Vertical

Correct Marks : 2 Wrong Marks : 0

तल ठेकॉ को 'पेशकलर' कलहल है

Options :

91394386157. मृदंग सलगर में

91394386158. सरमलए इशरत में

91394386159. मलदनुल मौसिकी में

91394386160. संगीत सलगर में

Question Number : 91 Question Id : 91394321937 Question Type : MCQ Option Shuffling : Yes Display Question Number : Yes
Single Line Question Option : No Option Orientation : Vertical

Correct Marks : 2 Wrong Marks : 0

After which of the following matras, the Laykaari of Dugun and Chaugun in one Āvartan of Rastāl will start in the same tāl ?

Options :

91394386161. $4\frac{1}{4}$

91394386162. $4\frac{1}{2}$

91394386163. $3\frac{1}{4}$

91394386164. $3\frac{1}{3}$

Question Number : 91 Question Id : 91394321937 Question Type : MCQ Option Shuffling : Yes Display Question Number : Yes
Single Line Question Option : No Option Orientation : Vertical

Correct Marks : 2 Wrong Marks : 0

रास ताल के एक आवर्तन में दुगुन व चौगुन की लयकारी इसी ताल में किस मात्रा के पश्चात प्रारम्भ होगी ?

Options :

91394386161. $4\frac{1}{4}$

91394386162. $4\frac{1}{2}$

91394386163. $3\frac{1}{4}$

91394386164. $3\frac{1}{3}$

Question Number : 92 Question Id : 91394321938 Question Type : MCQ Option Shuffling : Yes Display Question Number : Yes
Single Line Question Option : No Option Orientation : Vertical

Correct Marks : 2 Wrong Marks : 0

In which of the following Tālās, the Kamali chakkardar of Jhaptāl can be played as sadharan chakkardar ?

Options :

91394386165. Ektaal

91394386166. Pancham Savari

91394386167. Rudratāl

91394386168. Ada Chautāl

Question Number : 92 Question Id : 91394321938 Question Type : MCQ Option Shuffling : Yes Display Question Number : Yes
Single Line Question Option : No Option Orientation : Vertical

Correct Marks : 2 Wrong Marks : 0

झपताल में बजाया जाने वाला कमाली चक्करदार अन्य किस ताल में साधारण चक्करदार के रूप में बजाया जा सकता है ?

Options :

91394386165. एकताल

91394386166. पंचम सवारी

91394386167. रुद्रताल

91394386168. आड़ा चौताल

Question Number : 93 Question Id : 91394321939 Question Type : MCQ Option Shuffling : Yes Display Question Number : Yes
Single Line Question Option : No Option Orientation : Vertical

Correct Marks : 2 Wrong Marks : 0

In which Laykari, the bedam tihai in one Āvartan of Dhamar tāl will occur ?

Options :

91394386169. Dugun

91394386170. Tigun

91394386171. Chaugun

91394386172. Pachgun

Question Number : 93 Question Id : 91394321939 Question Type : MCQ Option Shuffling : Yes Display Question Number : Yes
Single Line Question Option : No Option Orientation : Vertical

Correct Marks : 2 Wrong Marks : 0

धमार ताल के एक आवर्तन में 'बेदम तिहाई' कौन-सी 'लयकारी' में होगी ?

Options :

91394386169. दुगुन

91394386170. तिगुन

91394386171. चौगुन

91394386172. पचगुन

Question Number : 94 Question Id : 91394321940 Question Type : MCQ Option Shuffling : Yes Display Question Number : Yes
Single Line Question Option : No Option Orientation : Vertical
Correct Marks : 2 Wrong Marks : 0

In which of the following gharanas the Kayadas of Aad Laya started ?

Options :

91394386173. Punjab

91394386174. Delhi

91394386175. Ajrada

91394386176. Lucknow

Question Number : 94 Question Id : 91394321940 Question Type : MCQ Option Shuffling : Yes Display Question Number : Yes
Single Line Question Option : No Option Orientation : Vertical
Correct Marks : 2 Wrong Marks : 0

कायदों में आड़ लय का प्रारम्भ किस घराने से हुआ ?

Options :

91394386173. पंजाब

91394386174. दिल्ली

91394386175. अजराड़ा

91394386176. लखनऊ

Question Number : 95 Question Id : 91394321941 Question Type : MCQ Option Shuffling : Yes Display Question Number : Yes
Single Line Question Option : No Option Orientation : Vertical
Correct Marks : 2 Wrong Marks : 0

Match the following and choose the correct answer from the code given below.

(Instruments) **(Playing tools)**

- | | |
|-------------|-------------|
| (a) Sarod | (i) Kalam |
| (b) Sitar | (ii) Mijrab |
| (c) Santoor | (iii) Gaj |
| (d) Israj | (iv) Java |

Code :

Options :

91394386177. (a)–(iv), (b)–(i), (c)–(ii), (d)–(iii)

91394386178. (a)–(iv), (b)–(ii), (c)–(i), (d)–(iii)

91394386179. (a)–(i), (b)–(ii), (c)–(iii), (d)–(iv)

91394386180. (a)–(ii), (b)–(iv), (c)–(i), (d)–(iii)

Question Number : 95 Question Id : 91394321941 Question Type : MCQ Option Shuffling : Yes Display Question Number : Yes
Single Line Question Option : No Option Orientation : Vertical

Correct Marks : 2 Wrong Marks : 0

सुमेलित कीजिए और नीचे दिए गए कूट में से सही उत्तर को चुनिए ।

(वाद्य) **(वादन उपकरण)**

- | | |
|-----------|-------------|
| (a) सरोद | (i) कलम |
| (b) सितार | (ii) मिजराब |
| (c) संतूर | (iii) गज |
| (d) इसराज | (iv) जवा |

कूट :

Options :

91394386177. (a)–(iv), (b)–(i), (c)–(ii), (d)–(iii)

91394386178. (a)–(iv), (b)–(ii), (c)–(i), (d)–(iii)

91394386179. (a)–(i), (b)–(ii), (c)–(iii), (d)–(iv)

91394386180. (a)–(ii), (b)–(iv), (c)–(i), (d)–(iii)

Question Number : 96 Question Id : 91394321942 Question Type : MCQ Option Shuffling : Yes Display Question Number : Yes
Single Line Question Option : No Option Orientation : Vertical

Correct Marks : 2 Wrong Marks : 0

The name of the son of Ustad Ghasit Khan

Options :

91394386181. Ustad Rahim Baksh

91394386182. Ustad Shammu Khan

91394386183. Ustad Nanhe Khan

91394386184. Ustad Paralle Khan

Question Number : 96 Question Id : 91394321942 Question Type : MCQ Option Shuffling : Yes Display Question Number : Yes
Single Line Question Option : No Option Orientation : Vertical

Correct Marks : 2 Wrong Marks : 0

उस्ताद घसीट खाँ के पुत्र का नाम है

Options :

91394386181. उस्ताद रहीम बक्श

91394386182. उस्ताद शम्मू खाँ

91394386183. उस्ताद नन्हे खाँ

91394386184. उस्ताद परल्ले खाँ

Question Number : 97 Question Id : 91394321943 Question Type : MCQ Option Shuffling : Yes Display Question Number : Yes
Single Line Question Option : No Option Orientation : Vertical

Correct Marks : 2 Wrong Marks : 0

Match the following and choose the correct answer from the code given below.

(Artist) **(Birthplace)**

- | | |
|------------------------|----------------|
| (a) Ahmed Jan Thirakwa | (i) Benares |
| (b) Amir Hussain Khan | (ii) Muradabad |
| (c) Habibuddin Khan | (iii) Bankheda |
| (d) Jahangir Khan | (iv) Meerut |

Code :

Options :

91394386185. (a)–(i), (b)–(iii), (c)–(iv), (d)–(ii)

91394386186. (a)–(ii), (b)–(iv), (c)–(iii), (d)–(i)

91394386187. (a)–(ii), (b)–(iii), (c)–(i), (d)–(iv)

(a)–(ii), (b)–(iii), (c)–(iv), (d)–(i)

91394386188.

Question Number : 97 Question Id : 91394321943 Question Type : MCQ Option Shuffling : Yes Display Question Number : Yes
Single Line Question Option : No Option Orientation : Vertical

Correct Marks : 2 Wrong Marks : 0

सुमेलित कीजिए और नीचे दिए गए कूट में से सही उत्तर को चुनिए ।

(कलाकार) (जन्म स्थल)

- | | |
|--------------------|----------------|
| (a) अहमदजान थिरकवा | (i) बनारस |
| (b) अमीर हुसैन खाँ | (ii) मुरादाबाद |
| (c) हबीबुद्दीन खाँ | (iii) बनखेड़ा |
| (d) जहाँगीर खाँ | (iv) मेरठ |

कूट :

Options :

(a)–(i), (b)–(iii), (c)–(iv), (d)–(ii)

91394386185.

(a)–(ii), (b)–(iv), (c)–(iii), (d)–(i)

91394386186.

(a)–(ii), (b)–(iii), (c)–(i), (d)–(iv)

91394386187.

(a)–(ii), (b)–(iii), (c)–(iv), (d)–(i)

91394386188.

Question Number : 98 Question Id : 91394321944 Question Type : MCQ Option Shuffling : Yes Display Question Number : Yes
Single Line Question Option : No Option Orientation : Vertical

Correct Marks : 2 Wrong Marks : 0

Dr. Puru Dadhich has written the teeka of which of the following Granthas ?

Options :

Amarkosh

91394386189.

Abhinav Tāl Manjari

91394386190.

Brihatdeshi

91394386191.

Vrihat Katha Sagar

91394386192.

Question Number : 98 Question Id : 91394321944 Question Type : MCQ Option Shuffling : Yes Display Question Number : Yes
Single Line Question Option : No Option Orientation : Vertical

Correct Marks : 2 Wrong Marks : 0

डॉ. पुरु दाधीच ने निम्नलिखित में से किस ग्रंथ की टीका लिखी है ?

Options :

91394386189. अमरकोष

91394386190. अभिनव ताल मंजरी

91394386191. बृहत्देशी

91394386192. बृहत् कथा सागर

Question Number : 99 Question Id : 91394321945 Question Type : MCQ Option Shuffling : Yes Display Question Number : Yes
Single Line Question Option : No Option Orientation : Vertical

Correct Marks : 2 Wrong Marks : 0

Choose the correct sequence of the Sashabd Kriyas :

Options :

91394386193. Dhruva – Shamyā – Tāl – Sannipāt

91394386194. Shamyā – Tāl – Sannipāt – Dhruva

91394386195. Tāl – Sannipāt – Dhruva – Shamyā

91394386196. Sannipāt – Dhruva – Shamyā – Tāl

Question Number : 99 Question Id : 91394321945 Question Type : MCQ Option Shuffling : Yes Display Question Number : Yes
Single Line Question Option : No Option Orientation : Vertical

Correct Marks : 2 Wrong Marks : 0

सशब्द क्रियाओं को क्रमानुसार चुनिए :

Options :

91394386193. ध्रुवा – शम्या – ताल – सन्निपात

91394386194. शम्या – ताल – सन्निपात – ध्रुवा

91394386195. ताल – सन्निपात – ध्रुवा – शम्या

91394386196. सन्निपात – ध्रुवा – शम्या – ताल

Question Number : 100 Question Id : 91394321946 Question Type : MCQ Option Shuffling : Yes Display Question Number : Yes
Single Line Question Option : No Option Orientation : Vertical

Correct Marks : 2 Wrong Marks : 0

Which one of the following Tālas is different from others ?

Options :

91394386197. Ikwai
91394386198. Jat-tāl
91394386199. Tintāl
91394386200. Badi Savari

Question Number : 100 Question Id : 91394321946 Question Type : MCQ Option Shuffling : Yes Display Question Number : Yes
Single Line Question Option : No Option Orientation : Vertical

Correct Marks : 2 Wrong Marks : 0

इनमें से कौन-सा ताल भिन्न है ?

Options :

91394386197. इकवाई
91394386198. जतताल
91394386199. तीनताल
91394386200. बड़ी सवारी

Question Number : 101 Question Id : 91394321947 Question Type : MCQ Option Shuffling : Yes Display Question Number : Yes
Single Line Question Option : No Option Orientation : Vertical

Correct Marks : 2 Wrong Marks : 0

The author of Bharatiya Tāl Manjari is

Options :

91394386201. Pt. Govind Rao Burhanpurkar
91394386202. Dr. Umesh Joshi
91394386203. Shri Pyare Lal Shrimal
91394386204. Amrit Lal Nagar

Question Number : 101 Question Id : 91394321947 Question Type : MCQ Option Shuffling : Yes Display Question Number : Yes
Single Line Question Option : No Option Orientation : Vertical

Correct Marks : 2 Wrong Marks : 0

भारतीय ताल मंजरी के लेखक हैं

Options :

91394386201. पं. गोविन्द राव बुरहानपुरकर

91394386202. डॉ. उमेश जोशी

91394386203. श्री प्यारे लाल श्रीमाल

91394386204. अमृत लाल नागर

Question Number : 102 Question Id : 91394321948 Question Type : MCQ Option Shuffling : Yes Display Question Number : Yes
Single Line Question Option : No Option Orientation : Vertical

Correct Marks : 2 Wrong Marks : 0

One cycle (Āvartan) each of Jhaptāl, Sultal, Kaharva Tāl in Biād consists of one cycle (Āvartan) of which Tāl from the following ?

Options :

91394386205. Aada Chautāl

91394386206. Badi Savari

91394386207. Rupak

91394386208. Rudra

Question Number : 102 Question Id : 91394321948 Question Type : MCQ Option Shuffling : Yes Display Question Number : Yes
Single Line Question Option : No Option Orientation : Vertical

Correct Marks : 2 Wrong Marks : 0

झपताल, सूलताल, कहरवा ताल की एक आवर्तन बिआड निम्न में से किस ताल के एक आवर्तन में सम-से-सम आती है ?

Options :

91394386205. आड़ा चौताल

91394386206. बड़ी सवारी

91394386207. रूपक

91394386208. रुद्र

Question Number : 103 Question Id : 91394321949 Question Type : MCQ Option Shuffling : Yes Display Question Number : Yes
Single Line Question Option : No Option Orientation : Vertical

Correct Marks : 2 Wrong Marks : 0

The total number of Matras of Triput Tāl Khand Jāti is

Options :

91394386209. 10

91394386210. 9

91394386211. 11

91394386212. 12

Question Number : 103 Question Id : 91394321949 Question Type : MCQ Option Shuffling : Yes Display Question Number : Yes
Single Line Question Option : No Option Orientation : Vertical

Correct Marks : 2 Wrong Marks : 0

त्रिपुट ताल खण्ड जाति की कुल मात्राएँ हैं

Options :

91394386209. 10

91394386210. 9

91394386211. 11

91394386212. 12

Question Number : 104 Question Id : 91394321950 Question Type : MCQ Option Shuffling : Yes Display Question Number : Yes
Single Line Question Option : No Option Orientation : Vertical

Correct Marks : 2 Wrong Marks : 0

In which of the following Tālas, bedam Tihai is *not* possible in Dugun, Tigun and Chaugun
Layakari ?

Options :

91394386213. Jhaptal

91394386214. Badi Savari

91394386215. Vasant

Dhamar

91394386216.

Question Number : 104 Question Id : 91394321950 Question Type : MCQ Option Shuffling : Yes Display Question Number : Yes
Single Line Question Option : No Option Orientation : Vertical

Correct Marks : 2 Wrong Marks : 0

दुगुन, तिगुन व चौगुन की लयकारी में निम्न में से किस ताल में बेदम तिहाई सम्भव नहीं है ?

Options :

झपताल

91394386213.

बड़ी सवारी

91394386214.

वसन्त

91394386215.

धमार

91394386216.

Question Number : 105 Question Id : 91394321951 Question Type : MCQ Option Shuffling : Yes Display Question Number : Yes
Single Line Question Option : No Option Orientation : Vertical

Correct Marks : 2 Wrong Marks : 0

The following quote figures in which of the following chapters of Sangeet Ratnakar ?

“Nriyam Vadyanugam Proktam Vadyam Gitanuvarti Cha”.

Options :

Swaragatadhyay

91394386217.

Prabandhadhyay

91394386218.

Prakirnadhyay

91394386219.

Vadyadhyay

91394386220.

Question Number : 105 Question Id : 91394321951 Question Type : MCQ Option Shuffling : Yes Display Question Number : Yes
Single Line Question Option : No Option Orientation : Vertical

Correct Marks : 2 Wrong Marks : 0

निम्नलिखित सूक्ति संगीत रत्नाकर के किस अध्याय में प्राप्त होती है ?

“नृत्यं वाद्यानुगं प्रोक्तं वाद्यं गीतानुवर्ति च ॥”

Options :

स्वरगताध्याय

91394386217.

91394386218. प्रबन्धाध्याय

91394386219. प्रकीर्णाध्याय

91394386220. वाद्याध्याय

Question Number : 106 Question Id : 91394321952 Question Type : MCQ Option Shuffling : Yes Display Question Number : Yes
Single Line Question Option : No Option Orientation : Vertical

Correct Marks : 2 Wrong Marks : 0

Avatadit (Hammered) Ghan Vadya is

Options :

91394386221. Ghanti

91394386222. Jhanjh

91394386223. Chiqli

91394386224. Chimta

Question Number : 106 Question Id : 91394321952 Question Type : MCQ Option Shuffling : Yes Display Question Number : Yes
Single Line Question Option : No Option Orientation : Vertical

Correct Marks : 2 Wrong Marks : 0

अवताडित घन वाद्य है

Options :

91394386221. घंटी

91394386222. झांझ

91394386223. चिपली

91394386224. चिमटा

Question Number : 107 Question Id : 91394321953 Question Type : MCQ Option Shuffling : Yes Display Question Number : Yes
Single Line Question Option : No Option Orientation : Vertical

Correct Marks : 2 Wrong Marks : 0

Which of the following Tabla Maestros has **not** received Padma Bhushan Award ?

Options :

91394386225. Pt. Kishan Maharaj

91394386226. Pt. Samta Prasad Mishra

91394386227. Pt. Nikhil Ghosh

91394386228. Ustad Zakir Hussain

Question Number : 107 Question Id : 91394321953 Question Type : MCQ Option Shuffling : Yes Display Question Number : Yes
Single Line Question Option : No Option Orientation : Vertical
Correct Marks : 2 Wrong Marks : 0

इनमें से किस तबला-वादक को पद्म भूषण की उपाधि प्राप्त नहीं है ?

Options :

91394386225. पं. किशन महाराज

91394386226. पं. साम्ता प्रसाद मिश्र

91394386227. पं. निखिल घोष

91394386228. उस्ताद जाकिर हुसैन

Question Number : 108 Question Id : 91394321954 Question Type : MCQ Option Shuffling : Yes Display Question Number : Yes
Single Line Question Option : No Option Orientation : Vertical
Correct Marks : 2 Wrong Marks : 0

According to matragana 'Dhagena' is

Options :

91394386229. SSI

91394386230. SIS

91394386231. SSS

91394386232. III

Question Number : 108 Question Id : 91394321954 Question Type : MCQ Option Shuffling : Yes Display Question Number : Yes
Single Line Question Option : No Option Orientation : Vertical
Correct Marks : 2 Wrong Marks : 0

'धागेन' मात्रागण के अनुसार होगा

Options :

91394386229. SSI

91394386230. SIS

91394386231. SSS

91394386232. III

**Question Number : 109 Question Id : 91394321955 Question Type : MCQ Option Shuffling : Yes Display Question Number : Yes
Single Line Question Option : No Option Orientation : Vertical**

Correct Marks : 2 Wrong Marks : 0

The Patvarna of Dhawas vadya is

Options :

91394386233. Tankar

91394386234. Denkar

91394386235. Dabak

91394386236. Gonkar

**Question Number : 109 Question Id : 91394321955 Question Type : MCQ Option Shuffling : Yes Display Question Number : Yes
Single Line Question Option : No Option Orientation : Vertical**

Correct Marks : 2 Wrong Marks : 0

ढवस वलद कल डलडवर्ण है

Options :

91394386233. टंकार

91394386234. देंकार

91394386235. डबक

91394386236. गोंकार

**Question Number : 110 Question Id : 91394321956 Question Type : MCQ Option Shuffling : Yes Display Question Number : Yes
Single Line Question Option : No Option Orientation : Vertical**

Correct Marks : 2 Wrong Marks : 0

Which Tabla-Maestro acted in the movie 'Saaz' ?

Options :

91394386237. Pt. Anindo Chatterjee
91394386238. Pt. Nayan Ghosh
91394386239. Pt. Kumar Bose
91394386240. Ustad Zakir Hussain

Question Number : 110 Question Id : 91394321956 Question Type : MCQ Option Shuffling : Yes Display Question Number : Yes
Single Line Question Option : No Option Orientation : Vertical

Correct Marks : 2 Wrong Marks : 0

‘साज़’ फिल्म में अभिनय करने वाले तबला-वादक हैं

Options :

91394386237. पं. अनिन्दो चटर्जी
91394386238. पं. नयन घोष
91394386239. पं. कुमार बोस
91394386240. उस्ताद ज़ाकिर हुसैन

Question Number : 111 Question Id : 91394321957 Question Type : MCQ Option Shuffling : Yes Display Question Number : Yes
Single Line Question Option : No Option Orientation : Vertical

Correct Marks : 2 Wrong Marks : 0

Choose the correct answer according to the ascending order of the number of Taalies.

Options :

91394386241. Jhaptaal, Ektaal, Farodast, Vasant
91394386242. Vasant, Farodast, Ektaal, Jhaptaal
91394386243. Farodast, Ektaal, Jhaptaal, Vasant
91394386244. Jhaptaal, Ektaal, Vasant, Farodast

Question Number : 111 Question Id : 91394321957 Question Type : MCQ Option Shuffling : Yes Display Question Number : Yes
Single Line Question Option : No Option Orientation : Vertical

Correct Marks : 2 Wrong Marks : 0

ताली की संख्याओं के बढ़ते हुए क्रम के अनुसार सही विकल्प चुनिए ।

Options :

91394386241. झपताल, एकताल, फरोदस्त, वसन्त
91394386242. वसन्त, फरोदस्त, एकताल, झपताल
91394386243. फरोदस्त, एकताल, झपताल, वसन्त
91394386244. झपताल, एकताल, वसन्त, फरोदस्त

Question Number : 112 Question Id : 91394321958 Question Type : MCQ Option Shuffling : Yes Display Question Number : Yes
Single Line Question Option : No Option Orientation : Vertical

Correct Marks : 2 Wrong Marks : 0

Given below are two statements, one labelled as Assertion (A) and the other labelled as Reason (R). Read the statements and choose the correct answer using the code given below.

Assertion (A) : Other names of Laghu unit (ikaai) are hraswa, maitrik and saral.

Reason (R) : In Chhandshastra, the value of laghu is one matra, laghu akshar is called hrashwa and its sign is simple (saral). Hence, the said names are appropriate.

Code :

Options :

91394386245. Both (A) and (R) are true.
91394386246. Both (A) and (R) are false.
91394386247. (A) is true, but (R) is false.
91394386248. (A) is false, but (R) is true.

Question Number : 112 Question Id : 91394321958 Question Type : MCQ Option Shuffling : Yes Display Question Number : Yes
Single Line Question Option : No Option Orientation : Vertical

Correct Marks : 2 Wrong Marks : 0

नीचे दो कथन दिए गए हैं, जिनमें से एक अभिकथन (A) है और दूसरा तर्क (R) है । कथनों को पढ़िए और नीचे दिए गए कूट का प्रयोग कर सही उत्तर चुनिए ।

अभिकथन (A) : लघु इकाई की अन्य संज्ञाएँ ह्रस्व, मात्रिक और सरल हैं ।

तर्क (R) : छन्दशास्त्र में लघु का मान एक मात्रा कहा है, लघु अक्षर को ह्रस्व कहा है और इसका चिह्न सरल है अतः उक्त संज्ञाएँ उचित हैं ।

कूट :

Options :

91394386245. (A) और (R) दोनों सही हैं ।

91394386246. (A) और (R) दोनों ग़लत हैं ।

91394386247. (A) सही है, परन्तु (R) ग़लत है ।

91394386248. (A) ग़लत है, परन्तु (R) सही है ।

Question Number : 113 Question Id : 91394321959 Question Type : MCQ Option Shuffling : Yes Display Question Number : Yes
Single Line Question Option : No Option Orientation : Vertical

Correct Marks : 2 Wrong Marks : 0

The value of 'Dha' with Dam in composing Tihai from the Theka of Ada-chautal in two
Āvartans of Rupak from sam to sam will be

Options :

91394386249. $1\frac{3}{4}$

91394386250. $1\frac{1}{4}$

91394386251. $2\frac{3}{4}$

91394386252. $1\frac{1}{2}$

Question Number : 113 Question Id : 91394321959 Question Type : MCQ Option Shuffling : Yes Display Question Number : Yes
Single Line Question Option : No Option Orientation : Vertical

Correct Marks : 2 Wrong Marks : 0

रूपक के दो आर्वतन में आड़ा-चौताल के ठेके से सम-से-सम तक की तिहाई बनाने में 'धा' का दम सहित मान होगा

Options :

91394386249. $1\frac{3}{4}$

91394386250. $1\frac{1}{4}$

91394386251. $2\frac{3}{4}$

91394386252. $1\frac{1}{2}$

Question Number : 114 Question Id : 91394321960 Question Type : MCQ Option Shuffling : Yes Display Question Number : Yes
Single Line Question Option : No Option Orientation : Vertical

Correct Marks : 2 Wrong Marks : 0

How many varnas will bedam tihai consist of in 'Jaitāl' ?

Options :

91394386253. 10

91394386254. 9

91394386255. 12

91394386256. 11

Question Number : 114 Question Id : 91394321960 Question Type : MCQ Option Shuffling : Yes Display Question Number : Yes
Single Line Question Option : No Option Orientation : Vertical

Correct Marks : 2 Wrong Marks : 0

'जयताल' में बेदम तिहाई कितने वर्णों की होगी ?

Options :

91394386253. 10

91394386254. 9

91394386255. 12

91394386256. 11

Question Number : 115 Question Id : 91394321961 Question Type : MCQ Option Shuffling : Yes Display Question Number : Yes
Single Line Question Option : No Option Orientation : Vertical

Correct Marks : 2 Wrong Marks : 0

Which of the following gharanas has the tradition of most prastaras of Kayadas ?

Options :

91394386257. Delhi

91394386258. Ajrada

91394386259. Farukhabad

91394386260. Lucknow

Question Number : 115 Question Id : 91394321961 Question Type : MCQ Option Shuffling : Yes Display Question Number : Yes
Single Line Question Option : No Option Orientation : Vertical

Correct Marks : 2 Wrong Marks : 0

सामान्यतः किस घराने के कायदों में सर्वाधिक प्रस्तार की परम्परा है ?

Options :

91394386257. दिल्ली

91394386258. अजराड़ा

91394386259. फर्रुखाबाद

91394386260. लखनऊ

Question Number : 116 Question Id : 91394321962 Question Type : MCQ Option Shuffling : Yes Display Question Number : Yes
Single Line Question Option : No Option Orientation : Vertical

Correct Marks : 2 Wrong Marks : 0

Match the following and choose the correct answer from the code given below.

(Chhand)

(Tāl)

- | | |
|-------------------|----------------|
| (a) Totak | (i) Deepchandi |
| (b) Gitangi | (ii) Teentāl |
| (c) Bhadauva | (iii) Jhaptāl |
| (d) Bhujangprayat | (iv) Dadra |

Code :

Options :

91394386261. (a)–(i), (b)–(ii), (c)–(iii), (d)–(iv)

91394386262. (a)–(iv), (b)–(iii), (c)–(ii), (d)–(i)

91394386263. (a)–(ii), (b)–(i), (c)–(iii), (d)–(iv)

91394386264. (a)–(ii), (b)–(i), (c)–(iv), (d)–(iii)

Question Number : 116 Question Id : 91394321962 Question Type : MCQ Option Shuffling : Yes Display Question Number : Yes
Single Line Question Option : No Option Orientation : Vertical

Correct Marks : 2 Wrong Marks : 0

सुमेलित कीजिए और नीचे दिए गए कूट में से सही उत्तर को चुनिए ।

(छंद)	(ताल)
(a) तोटक	(i) दीपचंदी
(b) गीतांगी	(ii) तीनताल
(c) भड़ौवा	(iii) झपताल
(d) भुजंगप्रयात	(iv) दादरा

कूट :

Options :

91394386261. (a)–(i), (b)–(ii), (c)–(iii), (d)–(iv)

91394386262. (a)–(iv), (b)–(iii), (c)–(ii), (d)–(i)

91394386263. (a)–(ii), (b)–(i), (c)–(iii), (d)–(iv)

91394386264. (a)–(ii), (b)–(i), (c)–(iv), (d)–(iii)

Question Number : 117 Question Id : 91394321963 Question Type : MCQ Option Shuffling : Yes Display Question Number : Yes
Single Line Question Option : No Option Orientation : Vertical

Correct Marks : 2 Wrong Marks : 0

Who among the following is **not** a disciple of Ustad Abid Hussain ?

Options :

91394386265. Hiru Ganguly

91394386266. Pt. Biru Mishra

91394386267. Ustad Jahangir Khan

91394386268. Pt. Gyan Prakash Ghosh

Question Number : 117 Question Id : 91394321963 Question Type : MCQ Option Shuffling : Yes Display Question Number : Yes
Single Line Question Option : No Option Orientation : Vertical

Correct Marks : 2 Wrong Marks : 0

इनमें से कौन उस्ताद आबिद हुसैन के शिष्य नहीं हैं ?

Options :

91394386265. हीरु गाँगुली

91394386266. पं. बीरु मिश्र

91394386267. उस्ताद जहाँगीर खाँ

91394386268. पं. ज्ञान प्रकाश घोष

Question Number : 118 Question Id : 91394321964 Question Type : MCQ Option Shuffling : Yes Display Question Number : Yes
Single Line Question Option : No Option Orientation : Vertical

Correct Marks : 2 Wrong Marks : 0

Match the following and choose the correct answer from the code given below.

(Vadak) (Guna)

- (a) Panav Vadak (i) Vidhanvit
(b) Dardar Vadak (ii) Abhyastkaran
(c) Mardal Vadak (iii) Somgitagya
(d) Mridang Vadak (iv) Avdhanam

Code :

Options :

91394386269. (a)–(ii), (b)–(iii), (c)–(iv), (d)–(i)

91394386270. (a)–(i), (b)–(ii), (c)–(iii), (d)–(iv)

91394386271. (a)–(i), (b)–(ii), (c)–(iv), (d)–(iii)

91394386272. (a)–(ii), (b)–(i), (c)–(iv), (d)–(iii)

Question Number : 118 Question Id : 91394321964 Question Type : MCQ Option Shuffling : Yes Display Question Number : Yes
Single Line Question Option : No Option Orientation : Vertical

Correct Marks : 2 Wrong Marks : 0

सुमेलित कीजिए और नीचे दिए गए कूट में से सही उत्तर को चुनिए ।

(वादक) (गुण)

- (a) पणव वादक (i) विधानवित्
(b) दर्दर वादक (ii) अभ्यस्तकरण
(c) मर्दल वादक (iii) सोमगीतज्ञ
(d) मृदंग वादक (iv) अवधानम्

कूट :

Options :

91394386269. (a)–(ii), (b)–(iii), (c)–(iv), (d)–(i)

91394386270. (a)–(i), (b)–(ii), (c)–(iii), (d)–(iv)

91394386271. (a)–(i), (b)–(ii), (c)–(iv), (d)–(iii)

91394386272. (a)–(ii), (b)–(i), (c)–(iv), (d)–(iii)

Question Number : 119 Question Id : 91394321965 Question Type : MCQ Option Shuffling : Yes Display Question Number : Yes
Single Line Question Option : No Option Orientation : Vertical

Correct Marks : 2 Wrong Marks : 0

Who is the author of “Sangeet Kaladhar” published in 1902 ?

Options :

91394386273. Dahiya Lal Shivram

91394386274. Dahiya Lal Shastri

91394386275. Dahiya Lal Mahadev

91394386276. Dahiya Lal Pathak

Question Number : 119 Question Id : 91394321965 Question Type : MCQ Option Shuffling : Yes Display Question Number : Yes
Single Line Question Option : No Option Orientation : Vertical

Correct Marks : 2 Wrong Marks : 0

1902 में प्रकाशित “संगीत कलाधर” के लेखक कौन हैं ?

Options :

91394386273. डाह्या लाल शिवराम

91394386274. डाह्या लाल शास्त्री

91394386275. डाह्या लाल महादेव

91394386276. डाह्या लाल पाठक

Question Number : 120 Question Id : 91394321966 Question Type : MCQ Option Shuffling : Yes Display Question Number : Yes
Single Line Question Option : No Option Orientation : Vertical

Correct Marks : 2 Wrong Marks : 0

Choose the correct sequence of ancient granthas in chronologically descending order.

Options :

91394386277. Abhinav Bharti – Sangeet Ratnakar – Bharat Bhashya – Sangeet Chudamani

91394386278. Sangeet Ratnakar – Sangeet Chudamani – Bharat Bhashya – Abhinav Bharti

91394386279. Sangeet Chudamani – Abhinav Bharti – Sangeet Ratnakar – Bharat Bhashya

91394386280. Sangeet Ratnakar – Bharat Bhashya – Sangeet Chudamani – Abhinav Bharti

Question Number : 120 Question Id : 91394321966 Question Type : MCQ Option Shuffling : Yes Display Question Number : Yes
Single Line Question Option : No Option Orientation : Vertical

Correct Marks : 2 Wrong Marks : 0

कालक्रमानुसार उतरते क्रम में प्राचीन ग्रंथों को सही क्रम में चुनिए ।

Options :

91394386277. अभिनव भारती – संगीत रत्नाकर – भरत भाष्य – संगीत चूड़ामणी

91394386278. संगीत रत्नाकर – संगीत चूड़ामणी – भरत भाष्य – अभिनव भारती

91394386279. संगीत चूड़ामणी – अभिनव भारती – संगीत रत्नाकर – भरत भाष्य

91394386280. संगीत रत्नाकर – भरत भाष्य – संगीत चूड़ामणी – अभिनव भारती

Question Number : 121 Question Id : 91394321967 Question Type : MCQ Option Shuffling : Yes Display Question Number : Yes
Single Line Question Option : No Option Orientation : Vertical

Correct Marks : 2 Wrong Marks : 0

Which of the following is **not** the author of 'Bharatiya Sangeet ka Itihaas' ?

Options :

91394386281. Dharmavati Shrivastava

91394386282. Thakur Jaidev Singh

91394386283. Umesh Chandra Joshi

91394386284. Dr. Lal Mani Mishra

Question Number : 121 Question Id : 91394321967 Question Type : MCQ Option Shuffling : Yes Display Question Number : Yes
Single Line Question Option : No Option Orientation : Vertical

Correct Marks : 2 Wrong Marks : 0

इसमें से कौन 'भारतीय संगीत का इतिहास' का लेखक **नहीं** है ?

Options :

91394386281. धर्मावती श्रीवास्तव

91394386282. ठाकुर जयदेव सिंह

91394386283. उमेश चन्द्र जोशी

91394386284. डॉ. लाल मणि मिश्रा

Question Number : 122 Question Id : 91394321968 Question Type : MCQ Option Shuffling : Yes Display Question Number : Yes
Single Line Question Option : No Option Orientation : Vertical

Correct Marks : 2 Wrong Marks : 0

One cycle (Āvartan) each of Dadra, Kaharva, Jhaptal in Aadi comes in one cycle of which Tāl ?

Options :

91394386285. Badi Savari

91394386286. Savari

91394386287. Pancham Savari

91394386288. Choti Savari

Question Number : 122 Question Id : 91394321968 Question Type : MCQ Option Shuffling : Yes Display Question Number : Yes
Single Line Question Option : No Option Orientation : Vertical

Correct Marks : 2 Wrong Marks : 0

दादरा, कहरवा, झपताल की एक आवर्तन आडी लयकारी किस ताल के एक आवर्तन में आती हैं ?

Options :

91394386285. बड़ी सवारी

91394386286. सवारी

91394386287. पंचम सवारी

91394386288. छोटी सवारी

Question Number : 123 Question Id : 91394321969 Question Type : MCQ Option Shuffling : Yes Display Question Number : Yes
Single Line Question Option : No Option Orientation : Vertical

Correct Marks : 2 Wrong Marks : 0

The Antyapad of Kayadas 'Dhinagina' is related to

Options :

91394386289. Yamak

91394386290. Anupras

91394386291. Shlesh

91394386292. Upma

Question Number : 123 Question Id : 91394321969 Question Type : MCQ Option Shuffling : Yes Display Question Number : Yes
Single Line Question Option : No Option Orientation : Vertical

Correct Marks : 2 Wrong Marks : 0

कायदों में आने वाला अंत्यपद 'धिनागीना' का संबंध है

Options :

91394386289. यमक से

91394386290. अनुप्रास से

91394386291. श्लेष से

91394386292. उपमा से

Question Number : 124 Question Id : 91394321970 Question Type : MCQ Option Shuffling : Yes Display Question Number : Yes
Single Line Question Option : No Option Orientation : Vertical

Correct Marks : 2 Wrong Marks : 0

Fill in the blank

Kriyanantar vishrantih _____ .

Options :

91394386293. Graha:

91394386294. Laya:

91394386295. Sama:

91394386296. Tāla:

Question Number : 124 Question Id : 91394321970 Question Type : MCQ Option Shuffling : Yes Display Question Number : Yes
Single Line Question Option : No Option Orientation : Vertical

Correct Marks : 2 Wrong Marks : 0

क्रियाऽनन्तर विश्रांति: _____ ।

रिक्त स्थान पर कौन-सा शब्द है ?

Options :

91394386293. ग्रहः

91394386294. लयः

91394386295. समाः

91394386296. तालः

Question Number : 125 Question Id : 91394321971 Question Type : MCQ Option Shuffling : Yes Display Question Number : Yes
Single Line Question Option : No Option Orientation : Vertical

Correct Marks : 2 Wrong Marks : 0

One Palla of Farmaishi Chakkardar in Ada chautaal will consist of how many matras ?

Options :

91394386297. 22

91394386298. 25

91394386299. 24

91394386300. 27

Question Number : 125 Question Id : 91394321971 Question Type : MCQ Option Shuffling : Yes Display Question Number : Yes
Single Line Question Option : No Option Orientation : Vertical

Correct Marks : 2 Wrong Marks : 0

आड़ा चौताल में फरमाईशी चक्करदार का एक पल्ला कितनी मात्राओं का होगा ?

Options :

91394386297. 22

91394386298. 25

91394386299. 24

91394386300.

Question Number : 126 Question Id : 91394321972 Question Type : MCQ Option Shuffling : Yes Display Question Number : Yes
Single Line Question Option : No Option Orientation : Vertical

Correct Marks : 2 Wrong Marks : 0

Which of the following political leaders has honoured Pt. Govind Rao Burhanpurkar with the title of Mridangacharya ?

Options :

91394386301. Lal Bahadur Shastri

91394386302. Jawaharlal Nehru

91394386303. Sardar Vallabh Bhai Patel

91394386304. Morarji Desai

Question Number : 126 Question Id : 91394321972 Question Type : MCQ Option Shuffling : Yes Display Question Number : Yes
Single Line Question Option : No Option Orientation : Vertical

Correct Marks : 2 Wrong Marks : 0

पं. गोविन्द राव बुरहानपुरकर को मृदंगाचार्य की उपाधि से किस राजनेता ने सम्मानित किया था ?

Options :

91394386301. लाल बहादुर शास्त्री

91394386302. जवाहर लाल नेहरू

91394386303. सरदार बल्लभ भाई पटेल

91394386304. मुरारजी देसाई

Question Number : 127 Question Id : 91394321973 Question Type : MCQ Option Shuffling : Yes Display Question Number : Yes
Single Line Question Option : No Option Orientation : Vertical

Correct Marks : 2 Wrong Marks : 0

Which of the following Pakhawaj players did **not** receive Padmshri Award ?

Options :

91394386305. Pt. Shankar Rao Bapu Shinde

91394386306. Pt. Ayodhya Prasad

91394386307. Pt. Purushottam Das

91394386308. Swami Pagal Das

Question Number : 127 Question Id : 91394321973 Question Type : MCQ Option Shuffling : Yes Display Question Number : Yes
Single Line Question Option : No Option Orientation : Vertical

Correct Marks : 2 Wrong Marks : 0

इसमें से किस पखावज-वादक को पद्मश्री की उपाधि प्राप्त नहीं हुई है ?

Options :

91394386305. पं. शंकर राव बापू शिन्दे

91394386306. पं. अयोध्या प्रसाद

91394386307. पं. पुरुषोत्तम दास

91394386308. स्वामी पागल दास

Question Number : 128 Question Id : 91394321974 Question Type : MCQ Option Shuffling : Yes Display Question Number : Yes
Single Line Question Option : No Option Orientation : Vertical

Correct Marks : 2 Wrong Marks : 0

Mutually struck idiophone (Ghanvadya) is

Options :

91394386309. Trikon

91394386310. Ghanti

91394386311. Chiqli

91394386312. Chimta

Question Number : 128 Question Id : 91394321974 Question Type : MCQ Option Shuffling : Yes Display Question Number : Yes
Single Line Question Option : No Option Orientation : Vertical

Correct Marks : 2 Wrong Marks : 0

परस्पर ताड़ित घन वाद्य है

Options :

91394386309. त्रिकोण

91394386310. घंटी

91394386311. चिपली

91394386312. चिमटा

Question Number : 129 Question Id : 91394321975 Question Type : MCQ Option Shuffling : Yes Display Question Number : Yes
Single Line Question Option : No Option Orientation : Vertical

Correct Marks : 2 Wrong Marks : 0

The Patvarna of Bheri vadya is

Options :

91394386313. Gein

91394386314. Denkar

91394386315. Dabaka

91394386316. Dagi

Question Number : 129 Question Id : 91394321975 Question Type : MCQ Option Shuffling : Yes Display Question Number : Yes
Single Line Question Option : No Option Orientation : Vertical

Correct Marks : 2 Wrong Marks : 0

भेरी वाद्य का पाटवर्ण है

Options :

91394386313. गें

91394386314. देंकार

91394386315. डबक

91394386316. डगि

Question Number : 130 Question Id : 91394321976 Question Type : MCQ Option Shuffling : Yes Display Question Number : Yes
Single Line Question Option : No Option Orientation : Vertical

Correct Marks : 2 Wrong Marks : 0

In which movie Ustad Allah Rakhan Khan Saheb has worked as a music director as well as playback singer ?

Options :

91394386317. Jalsaghar
91394386318. Sati Anusuiya
91394386319. Pather Panchali
91394386320. Sati Savitri

Question Number : 130 Question Id : 91394321976 Question Type : MCQ Option Shuffling : Yes Display Question Number : Yes
Single Line Question Option : No Option Orientation : Vertical

Correct Marks : 2 Wrong Marks : 0

किस फिल्म में उस्ताद अल्ला रखां खाँ साहब ने संगीत निर्देशन के साथ पार्श्व गायन भी किया है ?

Options :

91394386317. जलसा घर
91394386318. सती अनुसुइया
91394386319. पाथेर पाँचाली
91394386320. सती सावित्री

Question Number : 131 Question Id : 91394321977 Question Type : MCQ Option Shuffling : Yes Display Question Number : Yes
Single Line Question Option : No Option Orientation : Vertical

Correct Marks : 2 Wrong Marks : 0

In how many Tālas of different matras, the composition of 112 matras can be played ?

Options :

91394386321. 2
91394386322. 3
91394386323. 4
91394386324. 5

Question Number : 131 Question Id : 91394321977 Question Type : MCQ Option Shuffling : Yes Display Question Number : Yes
Single Line Question Option : No Option Orientation : Vertical

Correct Marks : 2 Wrong Marks : 0

112 मात्रे की रचना को भिन्न-भिन्न मात्राओं के कितनी तालों में बजाया जा सकता है ?

Options :

91394386321. 2

91394386322. 3

91394386323. 4

91394386324. 5

Question Number : 132 Question Id : 91394321978 Question Type : MCQ Option Shuffling : Yes Display Question Number : Yes
Single Line Question Option : No Option Orientation : Vertical

Correct Marks : 2 Wrong Marks : 0

“Dha-ddha Dheteta Dhada Dhada dhatina Tinnada” bol samuh is related to which of the following gharanas ?

Options :

91394386325. Delhi

91394386326. Benares

91394386327. Lucknow

91394386328. Punjab

Question Number : 132 Question Id : 91394321978 Question Type : MCQ Option Shuffling : Yes Display Question Number : Yes
Single Line Question Option : No Option Orientation : Vertical

Correct Marks : 2 Wrong Marks : 0

“धाडडधा धेतेते धाडड धाडड धातिन तिंननाडड” बोल समूह का संबंध किस घराने से है ?

Options :

91394386325. दिल्ली

91394386326. बनारस

91394386327. लखनऊ

91394386328. पंजाब

Question Number : 133 Question Id : 91394321979 Question Type : MCQ Option Shuffling : Yes Display Question Number : Yes
Single Line Question Option : No Option Orientation : Vertical

Correct Marks : 2 Wrong Marks : 0

Match the following and choose the correct answer from the code given below.

(Book)

(Author)

- (a) Risalaye Tablā Nawaji (i) Hakim Muhammad Karam Imam
(b) Sarmaye Ishrat (ii) Sadiq Ali
(c) Ma'dan al-Musiqi (iii) Muhammad Ishaq
(d) Nagamate-ul Asafi (iv) Muhammad Raza

Code :

Options :

91394386329. (a)–(iii), (b)–(ii), (c)–(i), (d)–(iv)

91394386330. (a)–(ii), (b)–(iii), (c)–(iv), (d)–(i)

91394386331. (a)–(iii), (b)–(iv), (c)–(i), (d)–(ii)

91394386332. (a)–(iv), (b)–(ii), (c)–(iii), (d)–(i)

Question Number : 133 Question Id : 91394321979 Question Type : MCQ Option Shuffling : Yes Display Question Number : Yes
Single Line Question Option : No Option Orientation : Vertical

Correct Marks : 2 Wrong Marks : 0

सुमेलित कीजिए और नीचे दिए गए कूट में से सही उत्तर को चुनिए ।

(पुस्तक)

(लेखक)

- (a) रिसालिये तबला नवाज़ी (i) हकीम मोहम्मद करम इमाम
(b) सरमाये इशरत (ii) सादिक अली
(c) मादनूल मूसीकी (iii) मोहम्मद इसहाक
(d) नगमाते-उल् आसफ़ी (iv) मोहम्मद रजा

कूट :

Options :

91394386329. (a)–(iii), (b)–(ii), (c)–(i), (d)–(iv)

91394386330. (a)–(ii), (b)–(iii), (c)–(iv), (d)–(i)

91394386331. (a)–(iii), (b)–(iv), (c)–(i), (d)–(ii)

91394386332. (a)–(iv), (b)–(ii), (c)–(iii), (d)–(i)

Question Number : 134 Question Id : 91394321980 Question Type : MCQ Option Shuffling : Yes Display Question Number : Yes
Single Line Question Option : No Option Orientation : Vertical

Correct Marks : 2 Wrong Marks : 0

In which of the following Gharanas, 'Lamchhad' Paranas were mostly played ?

Options :

91394386333. Farrukhabad

91394386334. Punjab

91394386335. Ajrada

91394386336. Delhi

Question Number : 134 Question Id : 91394321980 Question Type : MCQ Option Shuffling : Yes Display Question Number : Yes
Single Line Question Option : No Option Orientation : Vertical

Correct Marks : 2 Wrong Marks : 0

'लमछड़' परनों का वादन किस घराने में अधिकांशतः किया जाता था ?

Options :

91394386333. फर्रुखाबाद

91394386334. पंजाब

91394386335. अजराड़ा

91394386336. दिल्ली

Question Number : 135 Question Id : 91394321981 Question Type : MCQ Option Shuffling : Yes Display Question Number : Yes
Single Line Question Option : No Option Orientation : Vertical

Correct Marks : 2 Wrong Marks : 0

Match the following and choose the correct answer from the code given below.

(Book)

(Author)

(a) Avnaddh Vadya –
Siddhant Evam Vadan Parampara

(i) Dr. Jamuna Prasad Patel

(b) Lay-Tāl-Vichar Manthan

(ii) Dr. Gulshan Saxena

(c) Bharatiya Tāl mein
Anekata mein Ekta ki Khoj

(iii) Acharya Girish Chandra Shrivastava

(d) Taal Vadya Parichay

(iv) Dr. Mahendra Prasad Sharma

Code :

Options :

91394386337. (a)–(iv), (b)–(iii), (c)–(ii), (d)–(i)

91394386338. (a)–(iv), (b)–(ii), (c)–(iii), (d)–(i)

91394386339. (a)–(ii), (b)–(iv), (c)–(iii), (d)–(i)

91394386340. (a)–(i), (b)–(ii), (c)–(iii), (d)–(iv)

Question Number : 135 Question Id : 91394321981 Question Type : MCQ Option Shuffling : Yes Display Question Number : Yes
Single Line Question Option : No Option Orientation : Vertical

Correct Marks : 2 Wrong Marks : 0

सुमेलित कीजिए और नीचे दिए गए कूट में से सही उत्तर को चुनिए ।

(पुस्तक का नाम)

(लेखक)

- | | |
|---|--------------------------------------|
| (a) अवनद्ध वाद्य – सिद्धान्त एवं वादन परम्परा | (i) डॉ. जमुना प्रसाद पटेल |
| (b) लय-ताल-विचार मंथन | (ii) डॉ. गुलशन सक्सेना |
| (c) भारतीय ताल में अनेकता में एकता की खोज | (iii) आचार्य गिरीश चन्द्र श्रीवास्तव |
| (d) ताल वाद्य परिचय | (iv) डॉ. महेन्द्र प्रसाद शर्मा |

कूट :

Options :

91394386337. (a)–(iv), (b)–(iii), (c)–(ii), (d)–(i)

91394386338. (a)–(iv), (b)–(ii), (c)–(iii), (d)–(i)

91394386339. (a)–(ii), (b)–(iv), (c)–(iii), (d)–(i)

91394386340. (a)–(i), (b)–(ii), (c)–(iii), (d)–(iv)

Question Number : 136 Question Id : 91394321982 Question Type : MCQ Option Shuffling : Yes Display Question Number : Yes
Single Line Question Option : No Option Orientation : Vertical

Correct Marks : 2 Wrong Marks : 0

Which of the following Tālas is different from others ?

Options :

91394386341. Jat

91394386342. Rās

91394386343. Pratap Shikhar

Jaitāl

91394386344.

Question Number : 136 Question Id : 91394321982 Question Type : MCQ Option Shuffling : Yes Display Question Number : Yes
Single Line Question Option : No Option Orientation : Vertical

Correct Marks : 2 Wrong Marks : 0

इनमें से कौन-सा ताल अन्यो से भिन्न है ?

Options :

91394386341. जत

91394386342. रास

91394386343. प्रताप शिखर

91394386344. जयताल

Question Number : 137 Question Id : 91394321983 Question Type : MCQ Option Shuffling : Yes Display Question Number : Yes
Single Line Question Option : No Option Orientation : Vertical

Correct Marks : 2 Wrong Marks : 0

In which of the following years, "Sangeet Tāl Ank" has been published from Sangeet
Karyalay Hathras ?

Options :

91394386345. 1940

91394386346. 1947

91394386347. 1950

91394386348. 1952

Question Number : 137 Question Id : 91394321983 Question Type : MCQ Option Shuffling : Yes Display Question Number : Yes
Single Line Question Option : No Option Orientation : Vertical

Correct Marks : 2 Wrong Marks : 0

"संगीत ताल अंक" संगीत कार्यालय हाथरस से किस वर्ष प्रकाशित हुआ ?

Options :

91394386345. 1940

91394386346. 1947

91394386347. 1950

91394386348. 1952

Question Number : 138 Question Id : 91394321984 Question Type : MCQ Option Shuffling : Yes Display Question Number : Yes
Single Line Question Option : No Option Orientation : Vertical

Correct Marks : 2 Wrong Marks : 0

Choose the correct sequence of Pakhawaj players of the 20th century according to their birth in the ascending order :

Options :

91394386349. Pagal Das – Purushottam Das – Chakradhar Singh – Amba Das Pant

91394386350. Purushottam Das – Chakradhar Singh – Amba Das Pant – Pagal Das

91394386351. Chakradhar Singh – Amba Das Pant – Pagal Das – Purushottam Das

91394386352. Amba Das Pant – Chakradhar Singh – Purushottam Das – Pagal Das

Question Number : 138 Question Id : 91394321984 Question Type : MCQ Option Shuffling : Yes Display Question Number : Yes
Single Line Question Option : No Option Orientation : Vertical

Correct Marks : 2 Wrong Marks : 0

कालक्रमानुसार बीसवीं शताब्दी के पखावज वादकों को उनके जन्मानुसार चुनिए :

Options :

91394386349. पागल दास – पुरुषोत्तम दास – चक्रधर सिंह – अम्बा दास पन्त

91394386350. पुरुषोत्तम दास – चक्रधर सिंह – अम्बा दास पन्त – पागल दास

91394386351. चक्रधर सिंह – अम्बा दास पन्त – पागल दास – पुरुषोत्तम दास

91394386352. अम्बा दास पन्त – चक्रधर सिंह – पुरुषोत्तम दास – पागल दास

Question Number : 139 Question Id : 91394321985 Question Type : MCQ Option Shuffling : Yes Display Question Number : Yes
Single Line Question Option : No Option Orientation : Vertical

Correct Marks : 2 Wrong Marks : 0

The programme related to Sangeet Shiksha produced and broadcast by Akashwani

Options :

91394386353. Ninad Sarita

91394386354. Sangeet Sarita

91394386355. Sangeet Naad Sarita

91394386356. Swar Tāl Sarita

Question Number : 139 Question Id : 91394321985 Question Type : MCQ Option Shuffling : Yes Display Question Number : Yes
Single Line Question Option : No Option Orientation : Vertical

Correct Marks : 2 Wrong Marks : 0

आकाशवाणी द्वारा निर्मित एवं प्रसारित संगीत शिक्षा से संबंधित कार्यक्रम है

Options :

91394386353. निनाद सरिता

91394386354. संगीत सरिता

91394386355. संगीत नाद सरिता

91394386356. स्वर ताल सरिता

Question Number : 140 Question Id : 91394321986 Question Type : MCQ Option Shuffling : Yes Display Question Number : Yes
Single Line Question Option : No Option Orientation : Vertical

Correct Marks : 2 Wrong Marks : 0

Which Tal consists of 5 Taalis and 2 Khaalis ?

Options :

91394386357. Badi Savari

91394386358. Shikhar

91394386359. Choti Savari

91394386360. Farodast

Question Number : 140 Question Id : 91394321986 Question Type : MCQ Option Shuffling : Yes Display Question Number : Yes
Single Line Question Option : No Option Orientation : Vertical

Correct Marks : 2 Wrong Marks : 0

5 ताली 2 खाली युक्त ताल है

Options :

91394386357. बड़ी सवारी

91394386358. शिखर

91394386359. छोटी सवारी

91394386360. फरोदस्त

Question Number : 141 Question Id : 91394321987 Question Type : MCQ Option Shuffling : Yes Display Question Number : Yes
Single Line Question Option : No Option Orientation : Vertical

Correct Marks : 2 Wrong Marks : 0

Who is the author of the book "Sangeet Mein Tāl Vadyon ki Upyogita" ?

Options :

91394386361. Dr. Subhadra Choudhary

91394386362. Dr. Chitra Gupta

91394386363. Dr. Swatantra Sharma

91394386364. Dr. Yogmaya Shukla

Question Number : 141 Question Id : 91394321987 Question Type : MCQ Option Shuffling : Yes Display Question Number : Yes
Single Line Question Option : No Option Orientation : Vertical

Correct Marks : 2 Wrong Marks : 0

"संगीत में ताल बाद्यों की उपयोगिता" पुस्तक की लेखिका कौन हैं ?

Options :

91394386361. डॉ. सुभद्रा चौधरी

91394386362. डॉ. चित्रा गुप्ता

91394386363. डॉ. स्वतंत्र शर्मा

91394386364. डॉ. योगमाया शुक्ला

Question Number : 142 Question Id : 91394321988 Question Type : MCQ Option Shuffling : Yes Display Question Number : Yes
Single Line Question Option : No Option Orientation : Vertical

Correct Marks : 2 Wrong Marks : 0

Another name of Usul-e-Fakhta Tāl

Options :

91394386365. Sulfakhta

91394386366. Sultāl

91394386367. Sulfak

91394386368. All of the above

Question Number : 142 Question Id : 91394321988 Question Type : MCQ Option Shuffling : Yes Display Question Number : Yes
Single Line Question Option : No Option Orientation : Vertical

Correct Marks : 2 Wrong Marks : 0

उसूल-ए-फाख्ता ताल के अन्य नाम

Options :

91394386365. सूलफाख्ता

91394386366. सूलताल

91394386367. सूलफ़ाक

91394386368. उपर्युक्त सभी

Question Number : 143 Question Id : 91394321989 Question Type : MCQ Option Shuffling : Yes Display Question Number : Yes
Single Line Question Option : No Option Orientation : Vertical

Correct Marks : 2 Wrong Marks : 0

The actual purpose of percussion instruments is

Options :

91394386369. Anuranjan

91394386370. Upranjan

91394386371. Anuranan

91394386372. Chitrabhanjan

Question Number : 143 Question Id : 91394321989 Question Type : MCQ Option Shuffling : Yes Display Question Number : Yes
Single Line Question Option : No Option Orientation : Vertical

Correct Marks : 2 Wrong Marks : 0

अवनद्ध वाद्यों का मुख्य कार्य है

Options :

91394386369. अनुरंजन

91394386370. उपरंजन

91394386371. अनुरणन

91394386372. चित्रभंजन

Question Number : 144 Question Id : 91394321990 Question Type : MCQ Option Shuffling : Yes Display Question Number : Yes
Single Line Question Option : No Option Orientation : Vertical

Correct Marks : 2 Wrong Marks : 0

The total number of Margi and Deshi Tālas according to Sangeet Ratnakar is

Options :

91394386373. 120

91394386374. 105

91394386375. 125

91394386376. 108

Question Number : 144 Question Id : 91394321990 Question Type : MCQ Option Shuffling : Yes Display Question Number : Yes
Single Line Question Option : No Option Orientation : Vertical

Correct Marks : 2 Wrong Marks : 0

संगीत रत्नाकर के अनुसार मागों एवं देशी तालों की कुल संख्या है

Options :

91394386373. 120

91394386374. 105

91394386375. 125

91394386376. 108

Question Number : 145 Question Id : 91394321991 Question Type : MCQ Option Shuffling : Yes Display Question Number : Yes
Single Line Question Option : No Option Orientation : Vertical

Correct Marks : 2 Wrong Marks : 0

According to Western music, the value of Indian $\frac{1}{8}$ matra is called

Options :

91394386377. Semi-quaver

91394386378. Hemi semi-quaver

91394386379. Demi semi-quaver

91394386380. Quaver

Question Number : 145 Question Id : 91394321991 Question Type : MCQ Option Shuffling : Yes Display Question Number : Yes
Single Line Question Option : No Option Orientation : Vertical

Correct Marks : 2 Wrong Marks : 0

भारतीय $\frac{1}{8}$ मात्रा के मान को पाश्चात्य संगीत के अनुसार क्या कहते हैं ?

Options :

91394386377. सेमी क्वेवर

91394386378. हेमी सेमी क्वेवर

91394386379. डेमी सेमी क्वेवर

91394386380. क्वेवर

Question Number : 146 Question Id : 91394321992 Question Type : MCQ Option Shuffling : Yes Display Question Number : Yes
Single Line Question Option : No Option Orientation : Vertical

Correct Marks : 2 Wrong Marks : 0

The Patvarna of Trivali Vadya is

Options :

91394386381. Gonkar

91394386382. Denkar

91394386383. Ta, Da, Do, da

Dabaka

91394386384.

Question Number : 146 Question Id : 91394321992 Question Type : MCQ Option Shuffling : Yes Display Question Number : Yes
Single Line Question Option : No Option Orientation : Vertical

Correct Marks : 2 Wrong Marks : 0

त्रिवली वाद्य का पाटवर्ण है

Options :

91394386381. गोंकार

91394386382. देंकार

91394386383. ता, दा, दो, द

91394386384. डबक

Question Number : 147 Question Id : 91394321993 Question Type : MCQ Option Shuffling : Yes Display Question Number : Yes
Single Line Question Option : No Option Orientation : Vertical

Correct Marks : 2 Wrong Marks : 0

Splashed (Udwelit) Ghanvadya is

Options :

91394386385. Ghunghru

91394386386. Jhanjh

91394386387. Trikon

91394386388. Ghanti

Question Number : 147 Question Id : 91394321993 Question Type : MCQ Option Shuffling : Yes Display Question Number : Yes
Single Line Question Option : No Option Orientation : Vertical

Correct Marks : 2 Wrong Marks : 0

उद्वेलित घन वाद्य है

Options :

91394386385. घुंघरू

91394386386. झांझ

91394386387. त्रिकोण

91394386388. घंटी

Question Number : 148 Question Id : 91394321994 Question Type : MCQ Option Shuffling : Yes Display Question Number : Yes
Single Line Question Option : No Option Orientation : Vertical

Correct Marks : 2 Wrong Marks : 0

Which one of the following instruments does **not** resemble Damru-Aakriti ?

Options :

91394386389. Patah

91394386390. Aawaj

91394386391. Damru

91394386392. Panav

Question Number : 148 Question Id : 91394321994 Question Type : MCQ Option Shuffling : Yes Display Question Number : Yes
Single Line Question Option : No Option Orientation : Vertical

Correct Marks : 2 Wrong Marks : 0

निम्नलिखित में से कौन-सा वाद्य डमरू आकृति का नहीं है ?

Options :

91394386389. पटह

91394386390. आवज

91394386391. डमरू

91394386392. पणव

Question Number : 149 Question Id : 91394321995 Question Type : MCQ Option Shuffling : Yes Display Question Number : Yes
Single Line Question Option : No Option Orientation : Vertical

Correct Marks : 2 Wrong Marks : 0

Konark Sangeet Samaroh is held in

Options :

91394386393. Odisha

91394386394. Chhattisgarh

91394386395. West Bengal

91394386396. Bihar

Question Number : 149 Question Id : 91394321995 Question Type : MCQ Option Shuffling : Yes Display Question Number : Yes
Single Line Question Option : No Option Orientation : Vertical

Correct Marks : 2 Wrong Marks : 0

कोणार्क संगीत समारोह कहाँ आयोजित होता है ?

Options :

91394386393. ओडिशा

91394386394. छत्तीसगढ़

91394386395. पश्चिम बंगाल

91394386396. बिहार

Question Number : 150 Question Id : 91394321996 Question Type : MCQ Option Shuffling : Yes Display Question Number : Yes
Single Line Question Option : No Option Orientation : Vertical

Correct Marks : 2 Wrong Marks : 0

The renowned Santoor player who started his music career as a Tabla player is

Options :

91394386397. Pt. Shiv Kumar Sharma

91394386398. Pt. Bhajan Sopori

91394386399. Pt. Ulhas Bapat

91394386400. Shri Rahul Sharma

Question Number : 150 Question Id : 91394321996 Question Type : MCQ Option Shuffling : Yes Display Question Number : Yes
Single Line Question Option : No Option Orientation : Vertical

Correct Marks : 2 Wrong Marks : 0

प्रख्यात सन्तूर वादक जिन्होंने अपने सांगीतिक जीवन का प्रारम्भ तबला-वादक के रूप में किया

Options :

91394386397. पं. शिव कुमार शर्मा

91394386398. पं. भजन सोपुरी

91394386399. पं. उल्लास बापट

91394386400. श्री राहुल शर्मा