



EN/AREET/6/23

ENGLISH + HINDI

Test Booklet Code

परीक्षा पुस्तिका संकेत

This Booklet contains 32 pages. इस पुस्तिका में 32 पृष्ठ हैं।

Do not open this Test Booklet until you are asked to do so.

इस परीक्षा पुस्तिका को तब तक न खोलें जब तक कहा न जाए।

Read carefully the Instructions on the Back Cover of this Test Booklet.

इस परीक्षा पुस्तिका के पिछले आवरण पर दिए निर्देशों को ध्यान से पढ़ें।


English :

Page No. 2 to 17
(Q. No. 1 to 125)

Hindi :

Page No. 18 to 30
(Q. No. 26 to 125)

Test Booklet Number →



Name of the Candidate (in Capitals) :

परीक्षार्थी का नाम (बड़े अक्षरों में) : _____

Roll Number : in figures

अनुक्रमांक : अंकों में _____

: in words

: शब्दों में _____

Centre of Examination (in Capitals) :

परीक्षा केन्द्र (बड़े अक्षरों में) : _____

Candidate's Signature :

परीक्षार्थी के हस्ताक्षर : _____

Invigilator's Signature :

निरीक्षक के हस्ताक्षर : _____

Facsimile signature stamp of

Centre Superintendent : _____

In case of any ambiguity in translation of any question, English version shall be treated as final.**प्रश्नों के अनुवाद में किसी अस्पष्टता की स्थिति में, अंग्रेजी संस्करण को ही अंतिम माना जायेगा।****INSTRUCTIONS / निर्देश**

- This question paper booklet contains FOUR sections. **Section "A" Language** contains 25 questions of 2 marks each. **Section "B" Mathematics** contains 50 questions of 3 marks each. **Section "C" General Knowledge** and **Section "D" Intelligence** contain 25 questions each of 2 marks each. In all, the paper consists of 125 questions for a total of 300 marks. Answer all questions.
इस प्रश्नपत्र पुस्तिका में चार विभाग हैं। विभाग "A" भाषा के 25 प्रश्न हैं, प्रत्येक 2 अंक का है। विभाग "B" गणित के 50 प्रश्न हैं, प्रत्येक प्रश्न 3 अंक का है। विभाग "C" सामान्य ज्ञान और विभाग "D" बुद्धिमत्ता, प्रत्येक के 25 प्रश्न हैं, प्रत्येक प्रश्न 2 अंक का है। इस प्रकार प्रश्नपत्र में कुल 125 प्रश्न हैं एवं कुल अंक 300 है। सभी प्रश्नों के उत्तर दें।
- Duration of the test is 2 hours and 30 minutes. (150 minutes)
परीक्षा का समय 2 घंटा 30 मिनट (150 मिनट) है।
- Candidates are required to choose any of the following 13 languages : Assamese, Bengali, English, Gujarati, Hindi, Kannada, Malayalam, Marathi, Odiya, Punjabi, Tamil, Telugu or Urdu, while applying.
अभ्यर्थी को निम्न 13 भाषाओं में से किसी एक को चुनना है : आसामी, बंगाली, अंग्रेजी, गुजराती, हिन्दी, कन्नड़, मलयालम, मराठी, उड़िया, पंजाबी, तमिल, तेलुगु और उर्दू, जो कि आवेदन करते वक्त चुना हो।
- Question paper booklet for those who opted for English or Hindi will be bilingual (i.e. in English and in Hindi).
जिन्होंने विकल्प के तौर पर अंग्रेजी या हिन्दी चुना है उनके लिए प्रश्न पुस्तिका द्विभाषा में होगी। (यथा – अंग्रेजी एवं हिन्दी में)
- Question paper booklet for those who opted for any of the specified languages, will be bi-lingual, in the language opted by the candidate and in English.
अभ्यर्थी जिन्होंने विनिर्दिष्ट भाषाओं में से किसी एक को चुना है, उनके लिए आवेदन पत्र में चुनी गयी भाषा एवं अंग्रेजी, द्विभाषा में प्रश्न पुस्तिका होगी।
- Questions in **Section "A"** are specific to each language. They vary from language to language. They are not translated from English. They are to be attempted in the language opted by you in your application form and indicated on your Admit Card. They will be evaluated with reference to the answer keys of the specific language opted by you. If attempted in any other language, you may lose marks.
विभाग "A" में प्रश्न प्रत्येक भाषा में विशिष्ट हैं। वे एक भाषा से दूसरी भाषा में अलग हैं। वे अंग्रेजी से अनुवादित नहीं हैं। आपको अपने आवेदन पत्र में और आपके प्रवेशपत्र पर अंकित आप द्वारा चुनी भाषा में उत्तर देना है। आपके द्वारा चुनी गयी विशिष्ट भाषा की उत्तर कुंजी के सन्दर्भ में मूल्यांकन होगा। यदि दूसरी भाषा में उत्तर दिया तो आपको अंकों का नुकसान हो सकता है।

1961

EN/AREET/6/23_J]

Instructions Continued On Page No. 32

1

[Contd...

SECTION – 'A' : LANGUAGE

001 Select the incorrect option.

- (1) Mouse - Mice (2) Child - Children
(3) Sheep - Sheeps (4) Woman - Women

002 Identify the question tag in the following sentence :

She sings very well, doesn't she ?

- (1) doesn't (2) doesn't she ? (3) sings (4) well

003 Choose the option that does **NOT** come under gender.

- (1) Masculine (2) Feminine (3) Singular (4) Neuter

004 Identify the type of sentence.

Come and do your duty.

- (1) Assertive (2) Interrogative (3) Imperative (4) Exclamatory

005 'Laughter is the best medicine.'

Identify the kind of Noun for 'laughter'.

- (1) Proper Noun (2) Common Noun (3) Abstract Noun (4) Collective Noun

006 Choose the correct sentence where 'enough' has been used as an adverb.

- (1) There is enough 'ink' in the pot. (2) She has time enough to buy the shoes.
(3) He was kind enough to help me. (4) She is enough beautiful to tempt me.

007 From the following select the most appropriate option to fill in the blank :

a _____ of ships.

- (1) bundle (2) brood (3) fleet (4) pack

008 Select the sentence with correct order of words.

- (1) Call each other with the mice repeating calls.
(2) The mice call each other with repeating calls.
(3) The mice call repeating calls with each other.
(4) The mice repeating calls with each other.

009 Select the correct option to fill in the blank.

Don't disturb me. I _____ my work.

- (1) do (2) did (3) am doing (4) does

- 010** Identify the adverb.
She read the answer twice.
(1) twice (2) answer (3) read (4) she
- 011** Choose the option that is opposite of 'brave'.
(1) coward (2) clever (3) courageous (4) shameful
- 012** Choose the word nearest in meaning to the underlined word.
She requested him to drop her home.
(1) ordered (2) ask politely (3) instructed (4) forced
- 013** Choose the correct verb.
The baby was _____ in the room.
(1) sleep (2) sleeping (3) will sleep (4) will be sleeping
- 014** Choose the correct option to complete the idiom given below.
You have hit the nail on the _____.
(1) head (2) leg (3) arm (4) finger
- 015** Choose the correct spelling.
(1) Sincerity (2) Sencerity (3) Sincerrity (4) Sinceerity
- 016** Choose the correct pronoun.
_____ is standing at the gate ?
(1) Who (2) Whom (3) Which (4) Whose
- 017** Fill in the blank with the appropriate article.
They are going to _____ Metro station.
(1) a (2) the (3) an (4) no article
- 018** Identify the adjective from the given options.
(1) saw (2) to (3) honest (4) his
- 019** Choose the correct preposition to complete the following sentence.
The restaurant is _____ the school.
(1) up (2) behind (3) along (4) between
- 020** Complete the following sentence by choosing the correct option :
They left _____ shoes on the floor as _____ was no space on the shoe rack.
(1) they're, their (2) their, there (3) there, their (4) their, they're

Read the following passage carefully and answer the questions given below : (Q. 021 to Q. 025)

If you want to send a letter by post today, you have to paste a stamp on the envelope. But long ago there were no stamps. People who wanted to send a letter would fold it and stick it with wax. Then the post office would send the letter and the person who got it would have to pay for receiving the letter. The first stamp was printed in England. It was black and had a picture of Queen Victoria on it. It cost one penny (the British Paise). That is why it was called the 'Penny Black'.

The hobby of collecting stamps is known as Philately. Stamps have been brought out in many shapes and sizes. Some stamps are very valuable and can sell for a lot of money.



021 Choose the correct option to fill in the blank.

The first stamp was printed in _____.

- (1) India (2) England (3) America (4) Australia

022 Choose the correct statement.

- (1) The first stamp had a picture of a lion.
(2) The first stamp had a picture of Queen Victoria.
(3) The first stamp had a picture of Queen Elizabeth.
(4) The first stamp had a picture of a goat.

023 Choose the correct option.

The hobby of collecting stamps is called _____.

- (1) Gardening (2) Fashion Designing
(3) Cooking (4) Philately

024 'It was black and had a picture of Queen Victoria'.

Identify the part of speech for "black" from the given sentence.

- (1) Noun (2) Pronoun (3) Adjective (4) Verb

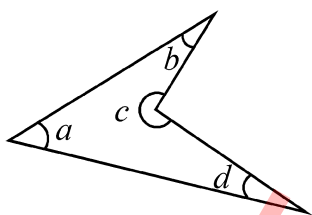
025 Choose the opposite of 'send'.

- (1) receive (2) cost (3) brought (4) sell

1961

SECTION – ‘B’ : MATHEMATICS

- 026** The normal body temperature of a human being is 37°C . Convert it to degree Fahrenheit.
 (1) 98°F (2) 97°F (3) 95°F (4) 98.5°F
- 027** The difference between -50°C and 72°C is _____.
 (1) 122°C (2) 42°C (3) $+32^{\circ}\text{C}$ (4) $+102^{\circ}\text{C}$
- 028** Express 18 kg 5g as kg
 (1) 18.5 kg (2) 18.500 kg (3) 18.05 kg (4) 18.005 kg
- 029** Find the number of zeros on 1 km when you convert a kilometer into millimeter.
 (1) 5 (2) 6 (3) 7 (4) 8
- 030** Which of the following is the correct representation for number 99 ?
 (1) IC (2) XCVIII (3) XCIX (4) L+XXXXIX
- 031** Find the value of : $\text{MXLII} + \text{CXCIV} - \text{LXIII}$
 (1) MCLXXIII (2) MCCCCXXIX (3) MCCLXXIII (4) MCXLIIV
- 032** Name the type of an angle whose measure is 29° more than the difference of 136° and 77° .
 (1) acute angle (2) obtuse angle (3) right angle (4) reflex angle
- 033** Which of the angles in the given figure is larger than two (2) right angles ?



- (1) Only $\angle a$ (2) Both $\angle a$ and $\angle d$
 (3) Only $\angle c$ (4) $\angle a, \angle b$ and $\angle d$ only

- 034** Read the given statements and choose the right option.

Statement A : All chords of a circle are diameters.

Statement B : Diameter is the longest chord of the circle.

- (1) Only statement A is true. (2) Only statement B is true.
 (3) Both statements are true. (4) Both statements are false.

- 035** A bullock cart is carrying 230 kg of sand to a construction site. If 4.65 kg sand slipped away on the way to the site, then find the amount of sand that reached the site.
 (1) 226.65 kg (2) 234.65 kg (3) 225.45 kg (4) 225.35 kg
- 036** If the speed of the car is reduced from 100 km/hr to 50 km/hr, then the time taken to cover the same distance will _____.
 (1) Remain same (2) Will be reduced by 50 minutes
 (3) Double (4) Will be increased by 50 minutes
- 037** A train covers a distance of 1862 km with a speed of 98 km/hr. Compute the time taken by the train to cover this distance.
 (1) 17 hours (2) 23 hours (3) 19 hours (4) 21 hours
- 038** Find the sum of 4-digit greatest number and 6-digit smallest number, each having 3 different digits.
 (1) 109999 (2) 109989 (3) 110020 (4) 1000989
- 039** Subtract 28,576 from the sum of the least and the greatest 5-digit number formed using the digits 3, 0, 5, 8 and 1.
 (1) 67,092 (2) 84,653 (3) 68,932 (4) 73,695
- 040** The complement of one-fourth of a straight angle will be -
 (A) Acute angle (B) Right angle
 (C) Obtuse angle (D) Half of a right angle
 (1) Only (B) (2) Only (C)
 (3) Both (A) and (B) (4) Both (A) and (D)
- 041** An angle is three times of the half of a right angle. Find its supplement.
 (1) 90° (2) 135° (3) 145° (4) 45°
- 042** While arranging the given fractions from the least to the greatest, which fraction will be at second last place ?
 $\frac{3}{5}, \frac{1}{3}, \frac{5}{6}, \frac{7}{15}$
 (1) $\frac{1}{3}$ (2) $\frac{5}{6}$ (3) $\frac{7}{15}$ (4) $\frac{3}{5}$
- 043** Arrange the following fractions in ascending order :
 $\frac{2}{3}, \frac{5}{6}, \frac{7}{8}, \frac{9}{14}$
 (1) $\frac{7}{8}, \frac{5}{6}, \frac{2}{3}, \frac{9}{14}$ (2) $\frac{7}{8}, \frac{2}{3}, \frac{5}{6}, \frac{9}{14}$ (3) $\frac{9}{14}, \frac{2}{3}, \frac{5}{6}, \frac{7}{8}$ (4) $\frac{9}{14}, \frac{7}{8}, \frac{2}{3}, \frac{5}{6}$

044 The table below shows the price of some items in a shop :

Item	Price per kg
Sugar	₹ 72
Rice	₹ 108
Coffee	₹ 237
Wheat	₹ 63

What is the ratio of combined price of Sugar and Rice to that of Coffee and Wheat ?

- (1) 9 : 14 (2) 2 : 3 (3) 4 : 5 (4) 3 : 5

045 What least number should be added to each term of the ratio 7 : 13 to get the ratio 2 : 3 ?

- (1) 1 (2) 3 (3) 5 (4) 7

046 By selling a watch for ₹ 1,275 Javed lost 15%. At what price should he sell so as to make a profit of 10% ?

- (1) ₹ 1,500 (2) ₹ 1,600 (3) ₹ 1,650 (4) ₹ 1,700

047 Seema and Ravi invested ₹ 1,50,000 in a business in the ratio of 2 : 3. At the end of the year, they made a profit of 150% on the invested sum. If they share the profit money in the same ratio, then what will be Seema's share ?

- (1) ₹ 1,50,000 (2) ₹ 20,000 (3) ₹ 1,35,000 (4) ₹ 90,000

048 Which of the given statement is true ?

- (1) $(21 - 15) - 6 = 21 - (15 - 6)$ (2) $14 \times 36 \div 6 - 10 = 84$
 (3) $93 \times 63 - 93 \times 37 = 9300$ (4) $25 + 49 \div 7 \times 5 - 6 = 54$

049 $9 + [6 + 7 \text{ of } 3 - (9 + 2 - 6 \div 2)]$

- (1) 25 (2) 26 (3) 27 (4) 28

050 The mean for 13, 14, 19, a , 17 is 22. Find the value of a .

- (1) 37 (2) 47 (3) 57 (4) 67

051 Given below are the runs scored by a batsman in 4 matches. Calculate the average runs scored by the batsman.

Match	I	II	III	IV
Runs Scored	35	0	6	98

- (1) 139 (2) 140 (3) 46.66 (4) 34.75

052 What percent of 4 days is 6 hours ?

- (1) $5\frac{1}{4}\%$ (2) $3\frac{1}{4}\%$ (3) $6\frac{1}{4}\%$ (4) $4\frac{1}{4}\%$

053 Match List - I with List - II.

List - I	List - II
(A) longest chord	(I) radius
(B) space between two radii	(II) diameter
(C) half of a circle	(III) sector
(D) half of diameter	(IV) semi-circle

Choose the correct answer from the options given below :

- (1) (A)-(IV), (B)-(I), (C)-(II), (D)-(III) (2) (A)-(III), (B)-(I), (C)-(IV), (D)-(II)
(3) (A)-(II), (B)-(III), (C)-(IV), (D)-(I) (4) (A)-(I), (B)-(II), (C)-(III), (D)-(IV)

054 Three cubes whose each edge is 4 cm are joined together to form a cuboid. Find the volume of the new cuboid formed.

- (1) 64 cm^3 (2) 0.064 cm^3 (3) 192 cm^3 (4) 12 cm^3

055 The perimeter of one face of a cuboid is 40 cm. If the length and depth of this cuboid is 13 cm and 8 cm, then find the volume of the cuboid.

- (1) 846 cm^3 (2) 625 cm^3 (3) 728 cm^3 (4) 746 cm^3

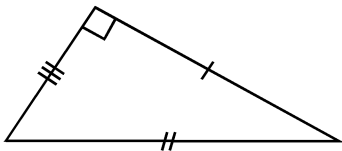
056 Which of the following are four consecutive composite numbers ?

- (1) 22, 23, 24, 25 (2) 60, 61, 62, 65 (3) 56, 57, 58, 59 (4) 90, 91, 92, 93

057 A pair of twin prime number between 70 and 100 is _____.

- (1) 71, 73 (2) 79, 83 (3) 97, 99 (4) 87, 89

058 Name the triangle shown below based on both sides and angles.



- (1) isosceles and acute triangle (2) scalene and right triangle
(3) obtuse and right triangle (4) equilateral and obtuse triangle

059 Given below are two statements : One is labelled as Assertion A and the other is labelled as Reason R.

Assertion A : Right angled triangle is not a regular polygon.

Reason R : All the sides and angles of a regular polygon are equal.

In the light of the above statements, choose the correct answer from the options given below :

- (1) Both A and R are true and R is the correct explanation of A.
(2) Both A and R are true but R is NOT the correct explanation of A.
(3) A is true but R is false.
(4) A is false but R is true.

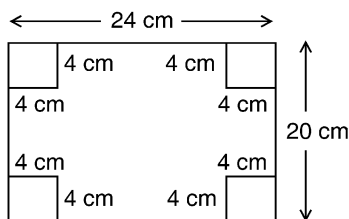
060 Find the value of $54 \div 0.009$.

- (1) 0.006 (2) 6.0 (3) 6000 (4) 48.6

1961

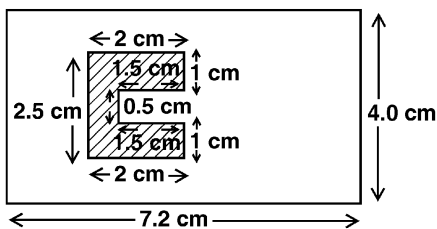
- 061 A batsman scored 190 runs which included 10 boundaries and 6 sixes. What percent of his total score did he make by running between the wickets ?
 (1) 50% (2) 60% (3) 70% (4) 75%

- 062 Riya is doing a paper cutting activity. She cuts out four identical square corners of the rectangular sheet as given in the figure. Find the area and perimeter of the remaining sheet.



- (1) 416 sq. cm 88 cm (2) 316 sq. m 80 cm
 (3) 480 sq. m. 88 cm (4) 480 sq. m 80 cm

- 063 Find the area of the unshaded region in the given figure.



- (1) 6.75 cm^2 (2) 28.8 cm^2 (3) 24.55 cm^2 (4) 22.05 cm^2

- 064 A farmer borrowed a sum of ₹ 10,000 from a bank at 5% rate of interest per annum. How much interest will he pay the bank in 3 years ?

- (1) ₹ 30,000 (2) ₹ 1,500 (3) ₹ 500 (4) ₹ 11,500

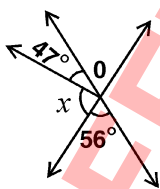
- 065 Rijul took ₹ 50,000 from a person for 3 years at the rate of 8% per annum. Find the amount paid by Rijul to that person after 3 years.

- (1) ₹ 52,000 (2) ₹ 62,000 (3) ₹ 51,200 (4) ₹ 48,000

- 066 Find the supplement of complement of two thirds of a right angle.

- (1) 120° (2) 150° (3) 30° (4) 60°

- 067 In the figure given, the measure of x is _____.



- (1) 124° (2) 43° (3) 77° (4) 56°

Sub1

- 068** The product of Place-value and Face value of digit 6 in the number 7860443 is _____.
- (1) 3652800000 (2) 3600000000 (3) 3626580000 (4) 360000000
- 069** Find the smallest five digit number using three different digits.
- (1) 10000 (2) 20000 (3) 00021 (4) 10002
- 070** If a number is divisible by 8 and 3 both, then by which other numbers will it always be divisible.
- (1) 8 and all its factors (2) factors of 3
(3) factors of 24 (4) factors of 12
- 071** The product of two numbers with LCM of 112 is 4032. The HCF of the two numbers will be _____.
- (1) 1 (2) 12 (3) 9 (4) 36
- 072** The cost of a dozen headphones is ₹ 78,564. Samar wants to buy five headphones. Find the amount to be paid by him to get five headphones.
- (1) ₹ 40,675 (2) ₹ 32,735 (3) ₹ 32,375 (4) ₹ 43,675
- 073** Trisha is arranging fruit juices for 40 classmates. She wants to serve 250 ml of juice to each of the classmate. What is the minimum number of tetrapacks she requires for serving if each tetrapack contains 2.5 l of juice ?
- (1) 2.5 (2) 3 (3) 4 (4) 10
- 074** Compute the reciprocal of expression given below :
- $$\frac{34}{15} \times \frac{45}{17}$$
- (1) $\frac{17}{38}$ (2) $\frac{15}{45}$ (3) $\frac{1}{6}$ (4) does not exist
- 075** Radhika bought $8\frac{1}{4}$ kg of fruits. She used $2\frac{5}{6}$ kg of fruits in pudding and kept the rest for fruit salad. What is the quantity of fruit left for fruit salad ?
- (1) $6\frac{2}{12}$ kg (2) $5\frac{5}{12}$ kg (3) $6\frac{1}{24}$ kg (4) $5\frac{5}{24}$ kg

SECTION – ‘C’ : GENERAL KNOWLEDGE

076 Who appoints the Prime Minister of India ?

- (1) The President of India (2) Chief Election Commissioner
(3) The Chief Justice of India (4) The Chief of Defence Staff

077 Kolkata is located on the banks of _____.

- (1) Ganges (2) Damodar (3) Hooghly (4) Padma

078 Choose the correct option.

This palace, located in Gwalior was built by the Maharaja of Gwalior Jayajirao Scindia. It has Italian and Tuscan style of architecture and is not a museum.

- (1) Hawa Mahal Palace (2) Umaid Bhawan Palace
(3) Lake Palace (4) Jai Vilas Palace

079 In Ramayana, where did Lord Shri Ram marry Sita ?

- (1) Ayodhya (2) Panchvati (3) Chitrakoot (4) Janakpur

080 Choose the correct option.

Food is stored in the roots of _____

- (1) Potato (2) Sweet Potato (3) Onion (4) Ginger

081 Choose the correct option.

_____ is the fastest healing body part.

- (1) Tongue (2) Liver (3) Large Intestine (4) Skin

082 Ayodhya is located on the banks of the river :

- (1) Ganges (2) Saryu (3) Godavari (4) Yamuna

083 Choose the correct option.

Sanjana found that as a seed germinates and seedling turns into a young plant, the size of the seed leaves gradually becomes smaller.

It is because :

- (1) The seed leaves are absorbed back into the seed coat.
(2) The sunlight withers the seed leaves.
(3) The food in the seed leaves has been used by the growing plant.
(4) None of these

- 084** Animal which can survive without water for a long time in desert.
(1) Horse (2) Cow (3) Buffalo (4) Camel
- 085** The only species where the males bear the young.
(1) Dolphin (2) Whale (3) Sea horse (4) Tortoise
- 086** Singlis Chham dance is related to which state ?
(1) Assam (2) Manipur (3) Sikkim (4) Kerala
- 087** The instrument used to measure the speed of a vehicle is :
(1) Speedometer (2) Photometer (3) Odometer (4) Tachometer
- 088** A sport where people use a board with small wheels is :
(1) Para motoring (2) Sky diving (3) Skating (4) Skate boarding
- 089** This award is also known as the Lotus decoration and is India's second highest civilian award.
(1) Arjuna award (2) Padma Vibhushan
(3) Bharat Ratna (4) Ashok Chakra
- 090** _____ is the first sportsperson to win the Padma Vibhushan award in 2007.
(1) Vishwanathan Anand (2) Sunil Gavaskar
(3) Kapil Dev (4) Sachin Tendulkar
- 091** Choose the correct option to fill in the blank.
Mountains arranged in a line is known as _____.
(1) range (2) fold mountain (3) peak (4) table mountain
- 092** Choose the correct option.
Water is known as the universal solvent because :
(1) It has many uses.
(2) It can remove all kinds of dust.
(3) It is the medium in which all body metabolism happens.
(4) It can dissolve many substances.

093 Which animal was represented on the mascot of the Delhi Asian Games 1982 ?

- (1) Elephant (2) Lion
(3) Panda (4) Tiger

094 The deficiency of which of the following vitamins causes Rickets ?

- (1) Vitamin - A (2) Vitamin - D (3) Vitamin - C (4) Vitamin - B₁₂

095 Who was the first Governor General of Independent India ?

- (1) Rajagopalachari (2) Mahatma Gandhi
(3) Lord Mount Batten (4) Jawaharlal Nehru

096 Identify the Indian Nuclear Physicist, who was the founding Director and Professor of Physics at the Tata Institute of Fundamental Research.

- (1) Homi J. Bhabha (2) Ramanujan
(3) Vikram Sarabhai (4) Aryabhata

097 When was Bangladesh formed ?

- (1) In 1971 (2) In 1905 (3) In 1970 (4) In 1947

098 Choose the correct option.

The United Nations (UN) was founded in _____.

- (1) 1944 (2) 1945 (3) 1946 (4) 1947

099 Identify from the following, the disease related to brain.

- (1) Meningitis (2) Migraine (3) Jaundice (4) Diabetes

100 Choose the correct option.

Cow dung can be used as manure as it is rich in _____.

- (1) Nitrogen (2) Sugar (3) Mercury (4) Calcium

SECTION – 'D' : INTELLIGENCE

101 Complete the following analogy :

B : 4 :: G : ?

- (1) 36 (2) 17 (3) 18 (4) 49

102 Find the odd one out.

- (1) Orange (2) Earth (3) Egg (4) Basketball

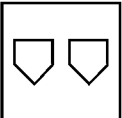

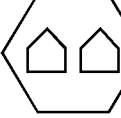
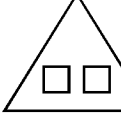
103 Find the odd one out.

- (1) 97 (2) 47 (3) 81 (4) 19

104 Pick the odd one out.

- (1) Book (2) Pencil (3) Eraser (4) Computer

105 Find the odd out.

- (1)  (2)  (3)  (4) 

106 Find the odd one out -

- (1) Kanpur (2) Vijaywada (3) Ganga (4) Guwahati

107 Choose the odd one out -

- (1) Guitar (2) Violin (3) Sitar (4) Flute

108 Complete the following analogy.

DGA : 12 :: AMQ : ?

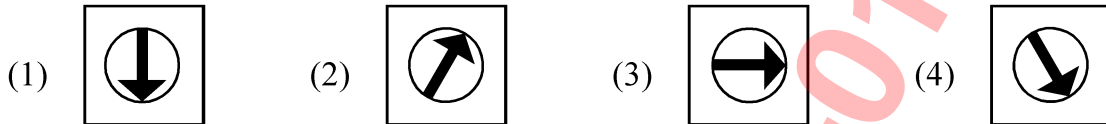
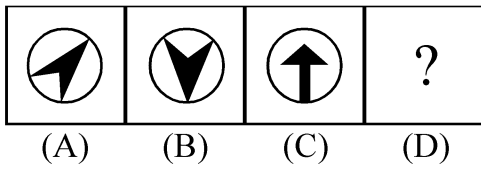
- (1) 19 (2) 31 (3) 28 (4) 17

109 Find the missing number.

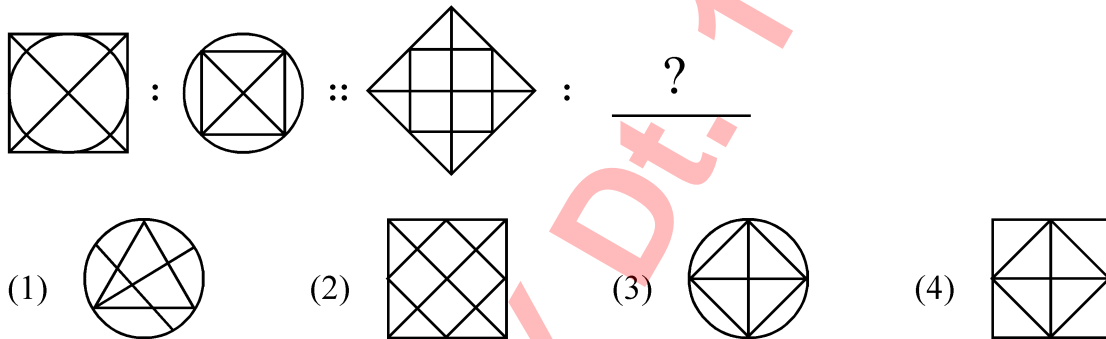
5 : 22 :: 8 : ?

- (1) 61 (2) 37 (3) 80 (4) 50

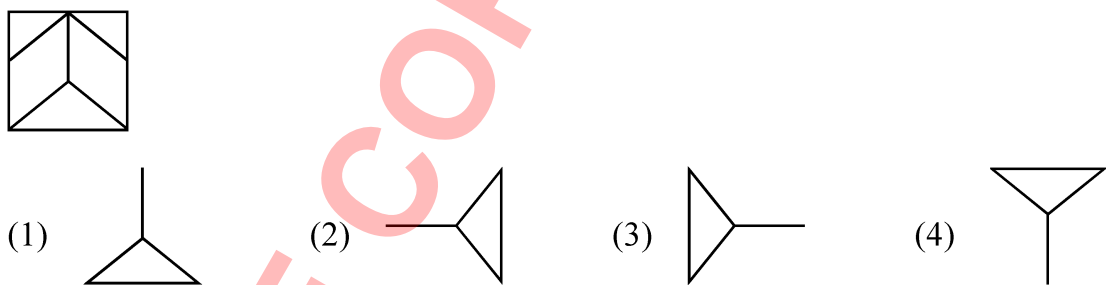
110 Figures A and B are related in a particular manner. Establish the same relationship between figure C and D by choosing a figure from the alternations, which replaces the question mark.



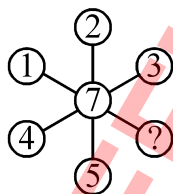
111 Complete the pattern :



112 Which of the following shapes is a part of the given figure -



113 Which number replaces the question mark ?



- (1) 8 (2) 3 (3) 4 (4) 6

1961

114 Arrange the following in a Logical order from bottom to top.

- (A) Knee
- (B) Toes
- (C) Calves
- (D) Heel
- (E) Ankle

Choose the correct answer from the options given below :

- (1) (D), (E), (C), (B), (A)
- (2) (B), (D), (E), (C), (A)
- (3) (D), (A), (B), (C), (E)
- (4) (B), (C), (E), (D), (A)

115 Arrange the given words as they occur in the dictionary -

- (A) PRISTINE
- (B) PRINTER
- (C) PREVIOUS
- (D) PREVENT
- (E) PRIORITY

Choose the correct answer from the options given below :

- (1) (B), (A), (C), (D), (E)
- (2) (C), (D), (A), (E), (B)
- (3) (D), (C), (B), (E), (A)
- (4) (A), (E), (B), (C), (D)

116 Arrange the following in a logical order :

- (A) Rain
- (B) Cooling
- (C) Condensation
- (D) Heating
- (E) Evaporation

Choose the correct answer from the options given below :

- (1) (B), (A), (C), (D), (E)
- (2) (E), (D), (A), (B), (C)
- (3) (B), (C), (A), (D), (E)
- (4) (D), (E), (B), (C), (A)

117 Which of the following is the water image of 5374 ?

- (1) 2 8 7 4
- (2) 4 7 8 2
- (3) 2 3 1 4
- (4) 2 8 7 4

1961

118 Find the missing term.

400, 388, 376, 364, ?

- (1) 352 (2) 350 (3) 354 (4) 372

119 Find the missing term.

3, 7, 16, 35, 74, ?


- (1) 153 (2) 160 (3) 173 (4) 151

120 Fill in the blank.

ADDG, EHHK, ILLO, MPPS, _____

- (1) PRRT (2) QUUX (3) QTTW (4) PSSV

121 Select the correct figure which will complete the given grid -



- (1) (2) (3) (4)

122 Complete the following analogy :

Book : Author :: Dish : _____

- (1) Musician (2) Chef (3) Painter (4) Artist

123 Complete the following analogy :

Flood : Drought :: Genius : _____

- (1) Think (2) Intelligence (3) Brain (4) Foolish

124 Identify the relationship in the first pair and find the missing term of the second pair.

ADE : FGJ :: KNO : ?

- (1) PQR (2) PQT (3) RQP (4) TPR

125 Complete the following analogy :

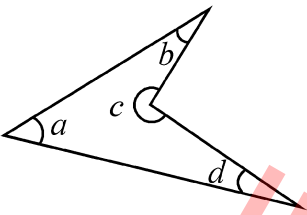
Cough : Throat :: Asthama : _____

- (1) Kidney (2) Lungs (3) Head (4) Liver

HINDI VERSION

विभाग – 'B' : गणित

- 026 मनुष्य के शरीर का सामान्य तापमान 37°C होता है। उसे फारहेनहाइट में परिवर्तित कीजिए।
(1) 98°F (2) 97°F (3) 95°F (4) 98.5°F
- 027 -50°C और 72°C के बीच का अंतर _____ है।
(1) 122°C (2) 42°C (3) $+32^{\circ}\text{C}$ (4) $+102^{\circ}\text{C}$
- 028 18 किग्रा 5 ग्राम को किलोग्राम में परिवर्तित कीजिए।
(1) 18.5 kg (2) 18.500 kg (3) 18.05 kg (4) 18.005 kg
- 029 जब किलोमीटर को मिलीमीटर में परिवर्तित करते हैं, तो 1 किलोमीटर में लगे शून्य को ज्ञात कीजिए।
(1) 5 (2) 6 (3) 7 (4) 8
- 030 निम्न में से कौनसी संख्या 99 को उचित रूप से दर्शाती है?
(1) IC (2) XCVIII (3) XCIX (4) L+XXXXIX
- 031 मान ज्ञात कीजिए : $\text{MXLII} + \text{CXCIV} - \text{LXIII}$
(1) MCLXXIII (2) MCCCCXXIX (3) MCCLXXIII (4) MCXLIIV
- 032 वह कौनसा कोण है जिसका माप 136° और 77° के अंतर से 29° अधिक है?
(1) न्यूनकोण (2) अधिक कोण (3) समकोण (4) प्रतिवर्ति कोण
- 033 नीचे दी गई आकृति में से कौन से कोण दो (2) समकोणों से बड़े हैं?



- (1) केवल $\angle a$ (2) दोनों $\angle a$ और $\angle d$
(3) केवल $\angle c$ (4) $\angle a$, $\angle b$ और $\angle d$ केवल
- 034 निम्नलिखित विधान को पढ़िए और उचित पर्याय चुनिए।
विधान A-वृत्त के सभी जीवा से व्यास बनता है।
विधान B-व्यास वृत्त की सबसे लंबी जीवा है।
(1) केवल विधान A सत्य है। (2) केवल विधान B सत्य है।
(3) दोनों विधान सत्य है। (4) दोनों विधान असत्य है।

- 035** एक बैलगाड़ी 230 किलो ग्राम रेत निर्माण-स्थल पर ले जा रही है।
यदि 4.65 किलो ग्राम रेत रास्ते में बैल गाड़ी से गिर जाती है, तो निर्माण-स्थल पर कितनी रेत पहुंचती है ?
(1) 226.65 kg (2) 234.65 kg (3) 225.45 kg (4) 225.35 kg
- 036** यदि एक कार की गति 100 किलोमीटर/घंटा से 50 किलोमीटर/घंटा कम की, तो वही अंतर तय करने के लिए कितना समय लगेगा ?
(1) समान होगा (2) 50 मिनट कम होगा
(3) दुगुना होगा (4) 50 मिनट अधिक होगा
- 037** एक ट्रेन 1862 किलोमीटर अंतर 98 किलोमीटर/घंटा की गति से तय करती है। यह अंतर तय करने के लिए वह कितना समय लेगी।
(1) 17 घंटे (2) 23 घंटे (3) 19 घंटे (4) 21 घंटे
- 038** जिसमें 3 विभिन्न अंक हो ऐसे 4-अंकीय सबसे बड़ी संख्या और 6 अंकीय सबसे छोटी संख्या का योग ज्ञात कीजिए।
(1) 109999 (2) 109989 (3) 110020 (4) 1000989
- 039** 3, 0, 5, 8 और 1 इन अंकों का उपयोग करके बनाए हुए सबसे छोटी और सबसे बड़ी पाँच-अंकीय संख्याओं के योग में से 28,576 व्यवकलन कीजिए।
(1) 67,092 (2) 84,653 (3) 68,932 (4) 73,695
- 040** एक सरल-कोण के एक-चतुर्थांश का पूरक होगा -
(A) न्यूनकोण (B) समकोण
(C) अधिक कोण (D) समकोण का आधा
(1) केवल (B) (2) केवल (C)
(3) (A) और (B) दोनों (4) (A) और (D) दोनों
- 041** एक कोण समकोण के आधे से तिगुना है। उसका संपूरक को ज्ञात कीजिए।
(1) 90° (2) 135° (3) 145° (4) 45°
- 042** दिए हुए भिन्नों में सबसे कम से सबसे अधिक के क्रम में रचना करते हुए, कौन सा भिन्न अंतिम सिरे से दूसरे स्थान पर होगा ?
 $\frac{3}{5}, \frac{1}{3}, \frac{5}{6}, \frac{7}{15}$
(1) $\frac{1}{3}$ (2) $\frac{5}{6}$ (3) $\frac{7}{15}$ (4) $\frac{3}{5}$
- 043** नीचे दिये गये भिन्नों की रचना आरोही क्रम में कीजिए।
 $\frac{2}{3}, \frac{5}{6}, \frac{7}{8}, \frac{9}{14}$
(1) $\frac{7}{8}, \frac{5}{6}, \frac{2}{3}, \frac{9}{14}$ (2) $\frac{7}{8}, \frac{2}{3}, \frac{5}{6}, \frac{9}{14}$ (3) $\frac{9}{14}, \frac{2}{3}, \frac{5}{6}, \frac{7}{8}$ (4) $\frac{9}{14}, \frac{7}{8}, \frac{2}{3}, \frac{5}{6}$

044 नीचे दी गई तालिका एक दुकान की कुछ वस्तुओं की कीमतें दर्शाती है।

वस्तु	कीमत प्रति किग्रा
चीनी	₹ 72
चावल	₹ 108
काँफी	₹ 237
गेहूँ	₹ 63

चीनी और चावल की संयुक्त कीमतों का काँफी और गेहूँ की संयुक्त कीमतों से कितना अनुपात है ?

- (1) 9 : 14 (2) 2 : 3 (3) 4 : 5 (4) 3 : 5

045 अनुपात 2 : 3 प्राप्त करने के लिये अनुपात 7 : 13 के हर पद से कौन-सी सबसे कम संख्या मिलानी होगी ?

- (1) 1 (2) 3 (3) 5 (4) 7

046 एक घड़ी ₹ 1,275 में बेचकर जावेद को 15% नुकसान हुआ। 10% लाभ मिलने के लिए उसे घड़ी कितने में बेचनी होगी ?

- (1) ₹ 1,500 (2) ₹ 1,600 (3) ₹ 1,650 (4) ₹ 1,700

047 सीमा और रवि ने एक धंधे में ₹ 1,50,000 की रकम 2:3 के अनुपात में निवेश की। वर्ष के अंत में उन्हें निवेश की हुई कुल रकम पर 150% लाभ हुआ। यदि वे लाभ की रकम समान अनुपात में साझा करते हैं, तो सीमा के हिस्से कितनी रकम आएगी ?

- (1) ₹ 1,50,000 (2) ₹ 20,000 (3) ₹ 1,35,000 (4) ₹ 90,000

048 दिए गये में से कौन सा सत्य है ?

- (1) $(21 - 15) - 6 = 21 - (15 - 6)$ (2) $14 \times 36 \div 6 - 10 = 84$
 (3) $93 \times 63 - 93 \times 37 = 9300$ (4) $25 + 49 \div 7 \times 5 - 6 = 54$

049 $9 + [6 + 7 \text{ of } 3 - (9 + 2 - 6 \div 2)]$

- (1) 25 (2) 26 (3) 27 (4) 28

050 13, 14, 19, a, 17 का मध्यमान 22 है। a का मान ज्ञात कीजिए।

- (1) 37 (2) 47 (3) 57 (4) 67

051 बल्लेबाज ने 4 मैचों में बनाये हुए रन नीचे दिये हैं। बल्लेबाज ने बनाये हुए रनों की औसत ज्ञात कीजिए।

मैच	I	II	III	IV
रन	35	0	6	98

- (1) 139 (2) 140 (3) 46.66 (4) 34.75

052 4 दिनों का कितना प्रतिशत 6 घंटे होते हैं ?

- (1) $5\frac{1}{4}\%$ (2) $3\frac{1}{4}\%$ (3) $6\frac{1}{4}\%$ (4) $4\frac{1}{4}\%$

Sub1

053 सूची I का सूची II से मिलान कीजिए।

सूची I

- (A) सबसे लंबी जीवा
(B) दो त्रिज्याओं के मध्य का स्थान
(C) वृत्त का आधा
(D) व्यास का आधा

सूची II

- (I) त्रिज्या
(II) व्यास
(III) वृत्तखंड
(IV) अर्ध-वृत्त

नीचे दिये गये विकल्पों में से उचित विकल्प का चयन कीजिए :

- (1) (A)-(IV), (B)-(I), (C)-(II), (D)-(III) (2) (A)-(III), (B)-(I), (C)-(IV), (D)-(II)
(3) (A)-(II), (B)-(III), (C)-(IV), (D)-(I) (4) (A)-(I), (B)-(II), (C)-(III), (D)-(IV)

054 प्रत्येक घन का किनारा 4 सेंटीमीटर है, ऐसे तीन घनों को जोड़कर एक घनाभ बनाया है। नए घनाभ का घनफल ज्ञात कीजिए।

- (1) 64 cm^3 (2) 0.064 cm^3 (3) 192 cm^3 (4) 12 cm^3

055 घनाभ के एक बाजू का परिमाण 40 सेंटीमीटर है। यदि इस घनाभ की लंबाई और गहराई 13 और 8 सेंटीमीटर है, तो घनाभ का घनफल ज्ञात कीजिए।

- (1) 846 cm^3 (2) 625 cm^3 (3) 728 cm^3 (4) 746 cm^3

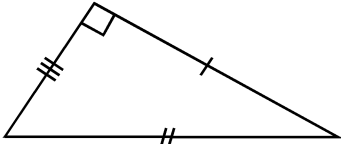
056 निम्न में से कौनसी 4 क्रमानुगत संयुक्त संख्याएँ हैं?

- (1) 22, 23, 24, 25 (2) 60, 61, 62, 65 (3) 56, 57, 58, 59 (4) 90, 91, 92, 93

057 70 और 100 के बीच अभाज्य युग्म की जोड़ी है _____.

- (1) 71, 73 (2) 79, 83 (3) 97, 99 (4) 87, 89

058 नीचे दी गए त्रिभुज की दोनों भुजाएं और कोण के आधार पर त्रिभुज का नाम बताइए।



- (1) समद्विबाहु और न्यून त्रिभुज (2) विषमबाहु और सम त्रिभुज
(3) अधिक और सम त्रिभुज (4) समबाहु और अधिक त्रिभुज

059 नीचे दो विधान दिए गए हैं: एक अभिकथन A और दूसरा R है।

अभिकथन A : सम कोण त्रिभुज एक सम बहुभुज नहीं है।

कारण R : एक सम बहुभुज की सभी भुजाएँ और कोण समान होते हैं।

उपर्युक्त विधान को देखते हुए, नीचे दिए गए विकल्पों में से उचित विकल्प को चुनिए।

- (1) दोनों A और R सत्य हैं और A, R का उचित स्पष्टीकरण है
(2) दोनों A और R सत्य हैं लेकिन A, R का उचित स्पष्टीकरण नहीं है।
(3) A सत्य है और R असत्य है
(4) A असत्य और R सत्य है

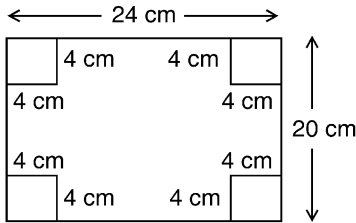
060 $54 \div 0.009$ के मान को ज्ञात कीजिए।

- (1) 0.006 (2) 6.0 (3) 6000 (4) 48.6

1991

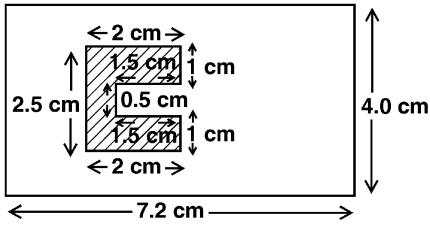
- 061 एक बल्लेबाज ने 190 रन बनाये जिसमें 10 चौके और 6 छक्के शामिल हैं। उसने बनाये हुए कुल रनों में से कितने प्रतिशत रन उसने विकेट्स के बीच दौड़कर बनाए ?
 (1) 50% (2) 60% (3) 70% (4) 75%

- 062 रिया कागज काँटने की क्रिया कर रही है। वह जिस तरह नीचे दिये आकृति में दर्शाया गया है उसी तरह एक आयताकार कागज के चार समान वर्गकित कोन काँटती है। शेष कागज का क्षेत्रफल और परिमाण ज्ञात कीजिए।



- (1) 416 sq. cm 88 cm (2) 316 sq. m 80 cm
 (3) 480 sq. m. 88 cm (4) 480 sq. m 80 cm

- 063 दिये गये आकृति में से अनाच्छादित क्षेत्र का क्षेत्रफल ज्ञात कीजिए।



- (1) 6.75 cm² (2) 28.8 cm² (3) 24.55 cm² (4) 22.05 cm²

- 064 एक किसान ने 5% प्रति वर्ष की ब्याज दर से बैंक से ₹ 10,000 का कर्जा लिया। 3 सालों में वह बैंक को कितने ब्याज का भुगतान करेगा ?

- (1) ₹ 30,000 (2) ₹ 1,500 (3) ₹ 500 (4) ₹ 11,500

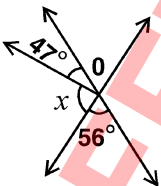
- 065 रिजूल ने एक व्यक्ति से ₹ 50,000 की रकम 3 वर्षों के लिए 8% प्रति वर्ष के दर से ली। 3 वर्षों के पश्चात रिजूल ने उस व्यक्ति को कितनी रकम अदा की, वह ज्ञात कीजिए।

- (1) ₹ 52,000 (2) ₹ 62,000 (3) ₹ 51,200 (4) ₹ 48,000

- 066 समकोण के दो तिहाई के संपूरक का पूरक ज्ञात कीजिए।

- (1) 120° (2) 150° (3) 30° (4) 60°

- 067 दी हुई आकृति में x का माप _____ है।



- (1) 124° (2) 43° (3) 77° (4) 56°

Sub1

- 068 7860443 संख्या में अंक 6 के स्थानिक मान और अंकित मूल्य का गुणन है _____.
- (1) 3652800000 (2) 3600000000 (3) 3626580000 (4) 3600000000
- 069 तीन विभिन्न अंकों का उपयोग करके सबसे छोटी पांच-अंकीय संख्या ज्ञात कीजिए।
- (1) 10000 (2) 20000 (3) 00021 (4) 10002
- 070 यदि एक संख्या 8 और 3 से विभाजित हो सकती है तो और कौनसी संख्या के साथ वह सदा विभाजित हो सकती है ?
- (1) 8 और उसके सारे गुणन खंड (2) 3 के गुणन खंड
(3) 24 के गुणन खंड (4) 12 के गुणन खंड
- 071 जिनका ल.स. (एल. सी. एम.) 112 है, ऐसी दो संख्याओं का गुणन 4032 है। उन दो संख्याओं का म. स. (एच.सी.एफ.) होगा _____.
- (1) 1 (2) 12 (3) 9 (4) 36
- 072 एक दर्जन हेडफोन की कीमत ₹ 78,564 है। समर को पाँच हेडफोन खरीदने है। उसे पाँच हेडफोन खरीदने के लिए कितनी रकम अदा करनी होगी ?
- (1) ₹ 40,675 (2) ₹ 32,735 (3) ₹ 32,375 (4) ₹ 43,675
- 073 त्रिशा अपने 40 सहपाठियों के लिए जूस का प्रबंध कर रही है। वह प्रत्येक सहपाठी को 250 मिली लिटर जूस देना चाहती है। यदि प्रत्येक टैट्रा पैक में 2.5 l जूस है, तो उसे कमसे कम कितने टैट्रा पैकों की आवश्यकता होगी ?
- (1) 2.5 (2) 3 (3) 4 (4) 10
- 074 नीचे दिये गये व्यंजक के व्युत्क्रम की गणना कीजिए।
- $$\frac{34}{15} \times \frac{45}{17}$$
- (1) $\frac{17}{38}$ (2) $\frac{15}{45}$ (3) $\frac{1}{6}$ (4) इनमें से नहीं है
- 075 राधिका ने $8\frac{1}{4}$ किग्रा फल खरीदे। उनमें से $2\frac{5}{6}$ किग्रा फलों का उपयोग उसने पुडिंग बनाने के लिए किया और बचे हुए फल फ्रूट सलाड बनाने के लिए रख दिए। उसने कितने फल फ्रूट सलाड बनाने के लिए रखे है ?
- (1) $6\frac{2}{12}$ किग्रा (2) $5\frac{5}{12}$ किग्रा (3) $6\frac{1}{24}$ किग्रा (4) $5\frac{5}{24}$ किग्रा

विभाग – 'C' : सामान्य ज्ञान

- 076 भारत के प्रधानमंत्री की नियुक्ति कौन करता है ?
(1) भारत के राष्ट्रपति (2) मुख्य निर्वाचन अधिकारी
(3) भारत के मुख्य न्यायमूर्ति (4) सुरक्षाबलों के प्रमुख
- 077 कोलकता _____ नदी के तट पर स्थित है।
(1) गंगा (2) दामोदर (3) हुगली (4) पद्मा
- 078 उचित विकल्प चुनिए।
यह स्थान ग्वालियर में स्थित है। वह ग्वालियर के महाराजा जयाजीराव सिंधिया द्वारा बनाया गया था। इसे इटालियन और टस्कन शैली की वास्तुकला से बनाया गया है और वह संग्रहालय नहीं है।
(1) हवा महल (2) उमैद भवन महल (3) लेक पैलेस (4) जय विलास महल
- 079 रामायण में, श्री राम ने सीता से विवाह किस स्थान पर किया था ?
(1) अयोध्या (2) पंचवटी (3) चित्रकूट (4) जनकपुर
- 080 उचित विकल्प चुनिए।
_____ अपना भोजन मूलों में संचयित करते हैं।
(1) आलू (2) शकरकंद (3) प्याज (4) अदरक
- 081 उचित विकल्प चुनिए।
_____ सबसे तेजी से ठीक होने वाला शरीर का अंग है।
(1) जीभ (2) यकृत (3) बड़ी आंत्र (4) त्वचा
- 082 अयोध्या इस नदी के तट पर स्थित है :
(1) गंगा (2) सरयू (3) गोदावरी (4) यमुना
- 083 उचित विकल्प चुनिए।
संजना को ज्ञात हुआ कि जैसे जैसे बीज अंकुरित होता है और वह पौधा बनने लगता है, तो पत्तों का आकार छोटा होने लगता है।
इसका कारण है :
(1) बीज के पत्ते पुनह बीजावरण में शोषित होने लगते हैं।
(2) सूर्यप्रकाश बीज के पत्तों को स्कंधित कर देता है।
(3) बीज के पत्तों का भोजन विकसित होते हुए पौधे के लिये इस्तेमाल होता है।
(4) इनमें कोई भी नहीं।

084 बिना पानी के दीर्घ काल तक मरुस्थल में जीवित रहने वाला प्राणी है।

- (1) घोड़ा (2) गाय (3) भैंस (4) ऊँट

085 एकमात्र प्रजाति जिनमें नर बच्चों को जन्म देते हैं।

- (1) डॉल्फ़ीन (2) व्हेल (3) समुद्री घोड़ा (4) कछुआ

086 सिंगलीस छाम नृत्य किस राज्य से संबंधित है?

- (1) असम (2) मणिपुर (3) सिक्किम (4) केरल

087 वाहन की गति मापने के लिए उपयोग में लाने वाला साधन है:

- (1) स्पीडोमीटर (2) फोटोमीटर (3) ओडोमीटर (4) टैकोमीटर

088 एक खेल जिसमें लोग बोर्ड के साथ छोटे पहियों का उपयोग करते हैं, वह है:

- (1) पैरा मोटरिंग (2) स्काई डायविंग (3) स्केटिंग (4) स्केट बोर्डिंग

089 यह पुरस्कार कमल पदक से जाना जाता है और भारत का दूसरा सर्वोच्च नागरिक पुरस्कार है।

- (1) अर्जुन पुरस्कार (2) पद्म विभूषण (3) भारत रत्न (4) अशोक चक्र

090 _____ 2007 में पद्म विभूषण जीतनेवाले पहले खिलाड़ी है।

- (1) विश्वनाथन आनंद (2) सुनील गावस्कर (3) कपिल देव (4) सचिन तेंदुलकर

091 उचित पर्याय चुनिए और वाक्य की पूर्ति कीजिए।

सीधे क्रम में पर्वतों को _____ कहा जाता है।

- (1) शृंखला (2) फोल्ड पर्वत (3) शिखर (4) टेबल पर्वत

092 उचित पर्याय चुनिए।

पानी को सार्वजनिक द्रावक कहते हैं, कारण :

- (1) उसके अनेक उपयोग हैं।
(2) वह हर तरह की धूल साफ कर सकता है।
(3) वह शरीर के सभी प्रकार के चयापचय का माध्यम है।
(4) वह अनेक वस्तुओं को घोल सकता है।

093 दिल्ली एशियन गेम्स 1982 के शुभंकर पर किस प्राणी को निरूपित किया गया था ?

- (1) हाथी (2) शेर
(3) पान्डा (4) बाघ

094 निम्नांकित में से कौनसे विटामिन की कमतरता के कारण सूखा रोग होता है।

- (1) Vitamin - A (2) Vitamin - D (3) Vitamin - C (4) Vitamin - B₁₂

095 स्वतंत्र भारत का पहला गवर्नर जनरल कौन था ?

- (1) राजागोपालचारी (2) महात्मा गांधी (3) लॉर्ड माउंटबेटन (4) जवाहरलाल नेहरू

096 उस भारतीय परमाणु भौतिकशास्त्रज्ञ को पहचानिए, जो टाटा इंस्टिट्यूट ऑफ फंडामेंटल रिसर्च के संस्थापकीय निर्देशक और भौतिकशास्त्र के प्राध्यापक थे।

- (1) होमी जहाँगीर भाभा (2) रामानुजन (3) विक्रम साराभाई (4) आर्यभट्ट

097 बांग्ला देश का निर्माण किस वर्ष हुआ था ?

- (1) 1971 (2) 1905 (3) 1970 (4) 1947

098 उचित विकल्प चुनिए।

संयुक्त राष्ट्र संघ की स्थापना _____ में हुई थी।

- (1) 1944 (2) 1945 (3) 1946 (4) 1947

099 मस्तिष्क से संबंधित रोग की पहचान कीजिए।

- (1) मेनिंजायटिस (2) माइग्रेन (3) पीलिया (4) मधुमेह

100 गाय के गोबर का उपयोग खाद बनाने के लिए कर सकते हैं, कारण वह _____ में समृद्ध है।

- (1) नाइट्रोजन (2) चीनी (3) मर्क्युरी (4) कैल्शियम

1981

विभाग – 'D' : बुद्धिमत्ता

101 समरूपता पूर्ण करें।

B : 4 :: G : ?

- (1) 36 (2) 17 (3) 18 (4) 49

102 विषम ज्ञात करें।

- (1) नारंगी (2) पृथ्वी (3) अंडा (4) बास्केट बॉल

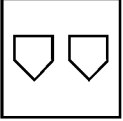
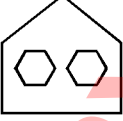
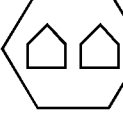
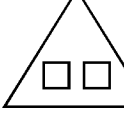
103 विषम ज्ञात करें।

- (1) 97 (2) 47 (3) 81 (4) 19

104 विषम ज्ञात करें।

- (1) पुस्तक (2) पेन्सिल (3) रबर (4) कंप्यूटर

105 विषम ज्ञात करें।

- (1)  (2)  (3)  (4) 

106 विषम ज्ञात करें।

- (1) कानपुर (2) विजयवाड़ा (3) गंगा (4) गुवाहाटी

107 विषम ज्ञात करें।

- (1) गिटार (2) व्हायोलिन (3) सितार (4) बांसुरी

108 सादृश्य पूर्ण करें।

DGA : 12 :: AMQ : ?

- (1) 19 (2) 31 (3) 28 (4) 17

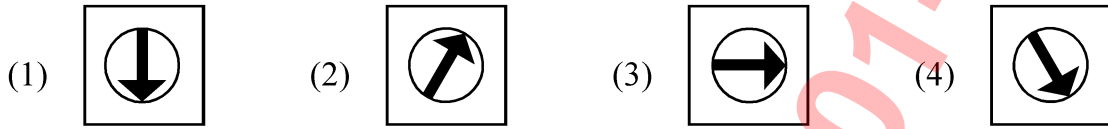
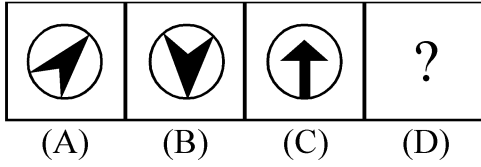
109 अनुपस्थित संख्या ज्ञात करें।

5 : 22 :: 8 : ?

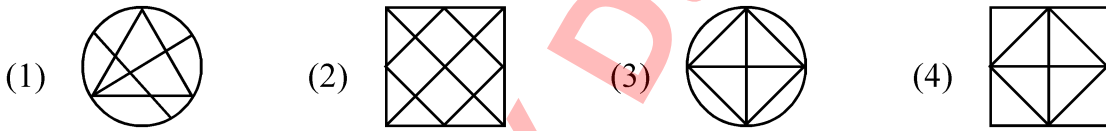
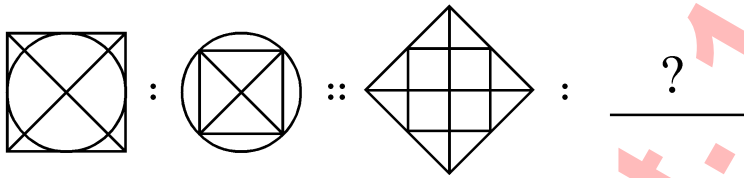
- (1) 61 (2) 37 (3) 80 (4) 50

1981

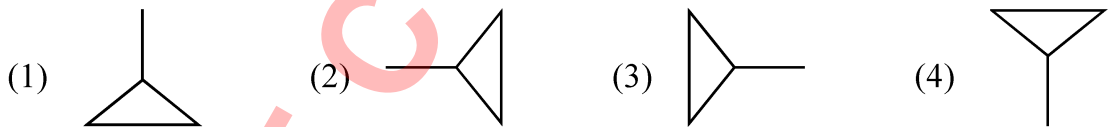
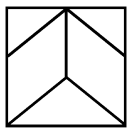
110 आकृति A और आकृति B किसी विशिष्ट तरह से एक दुसरे से संबंधित है। प्रश्न चिन्ह की जगह लेने वाले पर्याय का चयन करके आकृति C और आकृति D के बीच वही संबंध स्थापित कीजिए।



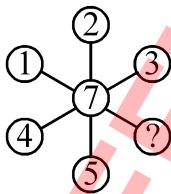
111 नमूने को पूर्ण कीजिए :



112 नीचे दिये गये आकृतिओं में से कौन सा आकार दी गयी आकृति का भाग है ?



113 कौन सी संख्या प्रश्नचिन्ह का स्थान लेगी ?



Subj

114 नीचे दिये गये शब्दों की नीचे से उपर के तार्किक क्रम में रचना कीजिए।

- (A) घुटना
- (B) पदांगुली
- (C) पिण्डलियाँ
- (D) एडियाँ
- (E) पदग्रंथिक

नीचे दिये गये विकल्पों में से योग्य विकल्प चुनिए :

- (1) (D), (E), (C), (B), (A)
- (2) (B), (D), (E), (C), (A)
- (3) (D), (A), (B), (C), (E)
- (4) (B), (C), (E), (D), (A)

115 दिये गये शब्दों की रचना शब्दकोष के क्रमानुसार कीजिए।

- (A) PRISTINE
- (B) PRINTER
- (C) PREVIOUS
- (D) PREVENT
- (E) PRIORITY

नीचे दिये गये विकल्पों में से योग्य विकल्प चुनिए :

- (1) (B), (A), (C), (D), (E)
- (2) (C), (D), (A), (E), (B)
- (3) (D), (C), (B), (E), (A)
- (4) (A), (E), (B), (C), (D)

116 नीचे दिये गये शब्दों की रचना तार्किक अनुक्रम में कीजिए।

- (A) वर्षा
- (B) शीतलन
- (C) संघनन
- (D) ताप
- (E) वाष्पिकरण

नीचे दिये गये विकल्पों में से योग्य विकल्प चुनिए :

- (1) (B), (A), (C), (D), (E)
- (2) (E), (D), (A), (B), (C)
- (3) (B), (C), (A), (D), (E)
- (4) (D), (E), (B), (C), (A)

117 5374 का जल प्रतिबिंब क्या होगा ?

- (1) 2 ६ 7 4
- (2) 4 ७ ६ ८
- (3) २ 3 १ 4
- (4) ८ ६ ७ 4

1981

118 अनुपस्थित संख्या को ज्ञात कीजिए।

400, 388, 376, 364, ?

- (1) 352 (2) 350 (3) 354 (4) 372

119 अनुपस्थित संख्या को ज्ञात कीजिए।

3, 7, 16, 35, 74, ?


- (1) 153 (2) 160 (3) 173 (4) 151

120 रिक्त स्थान की पूर्ति कीजिए।

ADDG, EHHK, ILLO, MPPS, _____

- (1) PRRT (2) QUUX (3) QTTW (4) PSSV

121 ग्रिड पूर्ण करने के लिए उचित आकृति चुनें।



- (1) (2) (3) (4)

122 समरूपता पूर्ण करे।

पुस्तक : लेखक :: पकवान : _____

- (1) संगीतकार (2) बावर्ची (3) चित्रकार (4) कलाकार

123 समरूपता पूर्ण करें।

बाढ़ : सूखा :: प्रतिभाशाली : _____

- (1) सोचना (2) ज्ञान (3) मस्तिष्क (4) मूर्ख

124 पहली जोड़ी का संबंध पहचानिए और दूसरी जोड़ी में अनुपस्थित जोड़ी को ज्ञात कीजिए।

ADE : FGJ :: KNO : ?

- (1) PQR (2) PQT (3) RQP (4) TPR

125 समरूपता पूर्ण करें।

खाँसी : गला :: अस्थमा : _____

- (1) गुर्दा (2) फेफड़े (3) सिर (4) यकृत

1981

OFFICE COPY Dt. 16-01-2023

7. At the appointed time, when you are instructed to open the booklet by the Invigilator, open it and check whether it contains **Section "A"** in the language opted by you in your Application Form and indicated on your Admit Card. If not, bring it to the notice of the Invigilator immediately.
नियुक्ति के समय, जब निरीक्षक के द्वारा पुस्तिका को खोलने की सूचना दी जाती है, तब इसे खोले और जाँच करें कि यह आपके आवेदन पत्र में और आपके प्रवेशपत्र पर अंकित आपके द्वारा चुनी गयी भाषा में विभाग "A" है। यदि नहीं हो, तो तुरंत निरीक्षक के ध्यान में लायें।
8. In case of any ambiguity in translation/construction of a question, in the version of the specified language/s, its English version (except for the language section questions) shall be treated as final.
विनिर्दिष्ट भाषा के प्रश्न के अनुवाद/रचना में अस्पष्टता होने पर अंग्रेजी अनुवाद (भाषा विभाग के प्रश्नों के सिवाय) अंतिम माना जायेगा।
9. The question paper booklet is of **32** pages. Please check and ensure that the Question Paper Booklet is complete and contains all the pages.
प्रश्नपत्र पुस्तिका **32** पृष्ठों की है। कृपया जाँच करके सुनिश्चित करें कि प्रश्नपत्र पुस्तिका सम्पूर्ण है और इसमें सभी पृष्ठ हैं।
10. Answer all questions in the OMR Answer Sheet only.
सभी प्रश्नों के उत्तर OMR उत्तर पत्र में ही दें।
11. The OMR Answer Sheet is inside this Question Paper Booklet. When you are directed to open the Question Paper Booklet, take out the OMR Answer Sheet and fill in the particulars carefully with Blue/Black ball point pen only.
OMR उत्तर पत्र इस प्रश्नपत्र पुस्तिका के अंदर है। जब आपको प्रश्नपत्र पुस्तिका को खोलने का निर्देश दिया जाये, तब OMR उत्तर पत्र को बाहर निकाल लें और केवल नीली / काली बालपॉइंट पेन से ही विवरण ध्यानपूर्वक भरें।
12. Darken only one circle as your answer for each question. If you darken more than one circle for the same question, your answer will be treated as wrong.
प्रत्येक प्रश्न के लिए सिर्फ एक गोले को ही काला करें। यदि आप एक ही प्रश्न के एक से अधिक गोले काला करते हैं तो आपका उत्तर गलत माना जायेगा।
13. There is no negative marking for a wrong answer.
गलत उत्तर के लिए ऋणात्मक अंकन (नेगेटीव मार्किंग) नहीं है।
14. Do not make unnecessary marks on the OMR answer sheet or fold or attempt to deface it. If you do so, your answer sheet will not be evaluated.
OMR उत्तर पत्र पर अनावश्यक चिह्न नहीं करें, इसे माड़ें नहीं व विकृत न करें। यदि आप ऐसा करते हैं, तो आपके उत्तर पत्र का मूल्यांकन नहीं किया जायेगा।
15. Use Blue/Black ball point pen only for writing particulars on this page and for writing answers. Do not use pencil.
इस पृष्ठ पर विवरण और उत्तर लिखने के लिए सिर्फ नीली / काली बालपॉइंट पेन का ही उपयोग करें। पेन्सिल का उपयोग न करें।
16. Rough work is to be done in the space provided for this purpose in the Question Paper Booklet only and not on the OMR sheet.
कच्चा कार्य प्रश्नपत्र पुस्तिका में दिये गये निश्चित स्थान पर ही करना है, OMR पत्र पर नहीं।
17. On completion of the test, hand over the OMR Answer Sheet to the Invigilator before leaving the Room/Hall.
परीक्षा पूर्ण होने पर, कक्ष / हाल छोड़ने से पूर्व OMR उत्तर पत्र परिवेक्षक को सुपुर्द करें।
18. You are allowed to take away this Question Paper Booklet with you.
आपको यह प्रश्नपत्र पुस्तिका अपने साथ ले जाने की अनुमति है।
19. The CODE for this Booklet is **J**. Make sure that the CODE printed on the OMR Answer Sheet is the same as that on this Question Paper Booklet. In case of discrepancy, report the matter immediately to the Invigilator for replacement of both the Question Paper Booklet and the Answer Sheet.
इस पुस्तिका का कोड **J** है। यह सुनिश्चित करें कि OMR उत्तर पत्र पर छपा कोड, इस प्रश्नपत्र पुस्तिका जैसा ही है। विसंगति की स्थिति में प्रश्नपत्र पुस्तिका और उत्तर पत्र बदलने के लिए परिवेक्षक को तुरंत रिपोर्ट करें।
20. Do not write your Roll No. anywhere else except in the specified space in the Question Paper Booklet / OMR Answer Sheet.
प्रश्नपत्र पुस्तिका / OMR उत्तर पत्र में विनिर्दिष्ट स्थान के अतिरिक्त अपना रोल नं. कहीं भी नहीं लिखें।
21. Do not use white fluid for carrying out any correction on the OMR Answer Sheet.
OMR उत्तर पत्र पर किसी भी शोधन हेतु श्वेत द्रव का उपयोग न करें।