

# National Testing Agency

**Question Paper Name :** Applied Geography and Geoinformatics Eng 13th June 2023 Shift 3  
**Subject Name :** Applied Geography and Geoinformatics Eng  
**Creation Date :** 2023-06-13 20:04:08  
**Duration :** 120  
**Total Marks :** 400  
**Display Marks:** Yes

## Applied Geography and Geoinformatics

**Group Number :** 1  
**Group Id :** 686340176  
**Group Maximum Duration :** 0  
**Group Minimum Duration :** 120  
**Show Attended Group? :** No  
**Edit Attended Group? :** No  
**Break time :** 0  
**Group Marks :** 400  
**Is this Group for Examiner? :** No  
**Examiner permission :** Cant View  
**Show Progress Bar? :** No

## Part A

**Section Id :** 686340351  
**Section Number :** 1  
**Section type :** Online  
**Mandatory or Optional :** Mandatory  
**Number of Questions :** 21  
**Number of Questions to be attempted :** 21  
**Section Marks :** 100  
**Enable Mark as Answered Mark for Review and Clear Response :** Yes  
**Maximum Instruction Time :** 0  
**Sub-Section Number :** 1  
**Sub-Section Id :** 686340586  
**Question Shuffling Allowed :** No  
**Is Section Default? :** null

**Question Id : 68634017724 Question Type : COMPREHENSION Sub Question Shuffling Allowed : Yes Group Comprehension Questions : No Question Pattern Type : NonMatrix Calculator : None Response Time : N.A Think Time : N.A Minimum Instruction Time : 0**

**Question Numbers : (1 to 5)**

**Question Label : Comprehension**

## Learning Characteristics

Some of the important characteristics of learning are as given below:

**1. Learning is Unitary:** It implies that the learner reacts as a whole person to the whole situation in a unified way. It means that the learner responds intellectually, emotionally, physically and spiritually at the same time. This attitude helps in the achievement of educational goals.

**Development of skills:** A skill is a learned activity that one develops through practice and reflection. It is the ability to perform a learned activity well and at will. Skill, as an ability to perform something, includes proficiency, competence, and expertise in the activity. Skill refers to learning psycho-motor behaviours required in the activities such as driving a car or swinging a tennis racket. The development of skills entails the following stages:

- a. Cognitive Stage:** Achieved through declarative knowledge
- b. Associative Stage:** Combining individual steps into larger units
- c. Automated Stage:** Where the whole procedure can be accomplished without much attention. In the last stage, the brain process shifts from reflective to reflexive.

**Development of Attitudes:** Attitude is mental state held by an individual which affects the way that person responds to events and organizes responses. Attitudes are commonly held to have three essential components or dimensions:

- i. A Cognitive Dimension: Beliefs and rationalizations which explain the holding of the attitudes
- ii. An Affective Dimension: Emotional aspects of attitudes, such as likes, dislikes, feeling of distaste, and
- iii. A Conative or Behavioural Dimension which involves the extent to which the individual is prepared to act on the attitude that they hold.

- 2. Learning may be planned or unplanned
- 3. Learning can be active as well as passive
- 4. Learning is usually individual, but it can also be collectively generated in groups
- 5. Learning is treated both as a process and as an outcome learning is a life long process
- 6. Learning may be incremental-it may add cumulatively to the prior learning or transformation
- 7. Learning can be stimulated or triggered by any experience, failure, success, and anything else.

## Sub questions

**Question Number : 1 Question Id : 68634017725 Question Type : MCQ Option Shuffling : No Is Question Mandatory : No Calculator : None Response Time : N.A Think Time : N.A Minimum Instruction Time : 0 Correct Marks : 4 Wrong Marks : 1**

The synonyms of 'unitary' are:

- A. Plenary
- B. Unabridged
- C. Deficient
- D. Outright

Choose the correct option:

- 1. A and D
- 2. A, B and C
- 3. A, B and D
- 4. A and D

**Options :**

- 68634070001. 1
- 68634070002. 2
- 68634070003. 3
- 68634070004. 4

**Question Number : 2 Question Id : 68634017726 Question Type : MCQ Option Shuffling : No Is Question Mandatory : No Calculator : None Response Time : N.A Think Time : N.A Minimum Instruction Time : 0 Correct Marks : 4 Wrong Marks : 1**

Read the statements carefully and answer.

**Statement I:** Unitary learning refers to the reaction of the whole person to the whole situation who facilitates learning.

**Statement II:** Skill refers to learning psycho-motor behaviours in different activities.

In the light of the above statements, choose the most appropriate answer from the options given below:

- 1. Both Statement I and Statement II are true
- 2. Both Statement I and Statement II are false
- 3. Statement I is true but Statement II is false
- 4. Statement I is false but Statement II is true

**Options :**

- 68634070005. 1
- 68634070006. 2
- 68634070007. 3
- 68634070008. 4

**Question Number : 3 Question Id : 68634017727 Question Type : MCQ Option Shuffling : No Is Question Mandatory : No Calculator : None Response Time : N.A Think Time : N.A Minimum Instruction Time : 0 Correct Marks : 4 Wrong Marks : 1**

Which of the following is not a dimension of attitude?

1. Beliefs and rationalization
2. Emotional aspects
3. Conative dimension
4. Active and passive dimension

**Options :**

68634070009. 1  
68634070010. 2  
68634070011. 3  
68634070012. 4

**Question Number : 4 Question Id : 68634017728 Question Type : MCQ Option Shuffling : No Is Question Mandatory : No Calculator : None Response Time : N.A Think Time : N.A Minimum Instruction Time : 0**

**Correct Marks : 4 Wrong Marks : 1**

If analysis: dissection, then synthesis: \_\_\_\_\_ ?

- A. disintegration
- B. integration
- C. coalescence
- D. differentiation

Choose the appropriate answer:

1. A and C
2. A and D
3. B and C
4. C and D

**Options :**

68634070013. 1  
68634070014. 2  
68634070015. 3  
68634070016. 4

**Question Number : 5 Question Id : 68634017729 Question Type : MCQ Option Shuffling : No Is Question Mandatory : No Calculator : None Response Time : N.A Think Time : N.A Minimum Instruction Time : 0**

**Correct Marks : 4 Wrong Marks : 1**

What is the true about learning?

- A. It is active as well as passive.
- B. Learning is always individual in nature.
- C. It can be added cumulatively to the prior learning.
- D. It can be stimulated by only negative experiences.

Choose the correct answer from the options given below:

- 1. A and B
- 2. A and C
- 3. B and C
- 4. A, B and D

**Options :**

- 68634070017. 1
- 68634070018. 2
- 68634070019. 3
- 68634070020. 4

**Question Id : 68634017724 Question Type : COMPREHENSION Sub Question Shuffling Allowed : Yes Group Comprehension Questions : No Question Pattern Type : NonMatrix Calculator : None Response Time : N.A Think Time : N.A Minimum Instruction Time : 0**

**Question Numbers : (1 to 5)**

Question Label : Comprehension



## Learning Characteristics

Some of the important characteristics of learning are as given below:

**1. Learning is Unitary:** It implies that the learner reacts as a whole person to the whole situation in a unified way. It means that the learner responds intellectually, emotionally, physically and spiritually at the same time. This attitude helps in the achievement of educational goals.

**Development of skills:** A skill is a learned activity that one develops through practice and reflection. It is the ability to perform a learned activity well and at will. Skill, as an ability to perform something, includes proficiency, competence, and expertise in the activity. Skill refers to learning psycho-motor behaviours required in the activities such as driving a car or swinging a tennis racket. The development of skills entails the following stages:

- a. Cognitive Stage:** Achieved through declarative knowledge
- b. Associative Stage:** Combining individual steps into larger units
- c. Automated Stage:** Where the whole procedure can be accomplished without much attention. In the last stage, the brain process shifts from reflective to reflexive.

**Development of Attitudes:** Attitude is mental state held by an individual which affects the way that person responds to events and organizes responses. Attitudes are commonly held to have three essential components or dimensions:

- i. A Cognitive Dimension: Beliefs and rationalizations which explain the holding of the attitudes
- ii. An Affective Dimension: Emotional aspects of attitudes, such as likes, dislikes, feeling of distaste, and
- iii. A Conative or Behavioural Dimension which involves the extent to which the individual is prepared to act on the attitude that they hold.

- 2. Learning may be planned or unplanned
- 3. Learning can be active as well as passive
- 4. Learning is usually individual, but it can also be collectively generated in groups
- 5. Learning is treated both as a process and as an outcome learning is a life long process
- 6. Learning may be incremental-it may add cumulatively to the prior learning or transformation
- 7. Learning can be stimulated or triggered by any experience, failure, success, and anything else.

## Sub questions

**Question Number : 1 Question Id : 68634017725 Question Type : MCQ Option Shuffling : No Is Question Mandatory : No Calculator : None Response Time : N.A Think Time : N.A Minimum Instruction Time : 0 Correct Marks : 4 Wrong Marks : 1**

The synonyms of 'unitary' are:

- A. Plenary
- B. Unabridged
- C. Deficient
- D. Outright

Choose the correct option:

- 1. A and D
- 2. A, B and C
- 3. A, B and D
- 4. A and D

**Options :**

- 68634070001. 1
- 68634070002. 2
- 68634070003. 3
- 68634070004. 4

**Question Number : 2 Question Id : 68634017726 Question Type : MCQ Option Shuffling : No Is Question Mandatory : No Calculator : None Response Time : N.A Think Time : N.A Minimum Instruction Time : 0 Correct Marks : 4 Wrong Marks : 1**

Read the statements carefully and answer.

**Statement I:** Unitary learning refers to the reaction of the whole person to the whole situation who facilitates learning.

**Statement II:** Skill refers to learning psycho-motor behaviours in different activities.

In the light of the above statements, choose the most appropriate answer from the options given below:

- 1. Both Statement I and Statement II are true
- 2. Both Statement I and Statement II are false
- 3. Statement I is true but Statement II is false
- 4. Statement I is false but Statement II is true

**Options :**

- 68634070005. 1
- 68634070006. 2
- 68634070007. 3
- 68634070008. 4

**Question Number : 3 Question Id : 68634017727 Question Type : MCQ Option Shuffling : No Is Question Mandatory : No Calculator : None Response Time : N.A Think Time : N.A Minimum Instruction Time : 0 Correct Marks : 4 Wrong Marks : 1**

Which of the following is not a dimension of attitude?

1. Beliefs and rationalization
2. Emotional aspects
3. Conative dimension
4. Active and passive dimension

**Options :**

68634070009. 1  
68634070010. 2  
68634070011. 3  
68634070012. 4

**Question Number : 4 Question Id : 68634017728 Question Type : MCQ Option Shuffling : No Is Question Mandatory : No Calculator : None Response Time : N.A Think Time : N.A Minimum Instruction Time : 0**

**Correct Marks : 4 Wrong Marks : 1**

If analysis: dissection, then synthesis: \_\_\_\_\_ ?

- A. disintegration
- B. integration
- C. coalescence
- D. differentiation

Choose the appropriate answer:

1. A and C
2. A and D
3. B and C
4. C and D

**Options :**

68634070013. 1  
68634070014. 2  
68634070015. 3  
68634070016. 4

**Question Number : 5 Question Id : 68634017729 Question Type : MCQ Option Shuffling : No Is Question Mandatory : No Calculator : None Response Time : N.A Think Time : N.A Minimum Instruction Time : 0**

**Correct Marks : 4 Wrong Marks : 1**



What is the true about learning?

- A. It is active as well as passive.
- B. Learning is always individual in nature.
- C. It can be added cumulatively to the prior learning.
- D. It can be stimulated by only negative experiences.

Choose the correct answer from the options given below:

- 1. A and B
- 2. A and C
- 3. B and C
- 4. A, B and D

**Options :**

- 68634070017. 1
- 68634070018. 2
- 68634070019. 3
- 68634070020. 4

<b>Sub-Section Number :</b>	2
<b>Sub-Section Id :</b>	686340587
<b>Question Shuffling Allowed :</b>	Yes
<b>Is Section Default? :</b>	null

**Question Number : 6 Question Id : 68634017730 Question Type : MCQ Option Shuffling : No Is Question Mandatory : No Calculator : None Response Time : N.A Think Time : N.A Minimum Instruction Time : 0 Correct Marks : 4 Wrong Marks : 1**

Select the appropriate meaning of the foreign word: ultra vires

- 1. Beyond one's authority
- 2. Super virus
- 3. Excellent
- 4. Under consideration

**Options :**

- 68634070021. 1
- 68634070022. 2
- 68634070023. 3
- 68634070024. 4

**Question Number : 6 Question Id : 68634017730 Question Type : MCQ Option Shuffling : No Is Question Mandatory : No Calculator : None Response Time : N.A Think Time : N.A Minimum Instruction Time : 0 Correct Marks : 4 Wrong Marks : 1**

Select the appropriate meaning of the foreign word: ultra vires

1. Beyond one's authority
2. Super virus
3. Excellent
4. Under consideration

**Options :**

- 68634070021. 1
- 68634070022. 2
- 68634070023. 3
- 68634070024. 4

**Question Number : 7 Question Id : 68634017731 Question Type : MCQ Option Shuffling : No Is Question Mandatory : No Calculator : None Response Time : N.A Think Time : N.A Minimum Instruction Time : 0 Correct Marks : 4 Wrong Marks : 1**

Synonym of the word 'Aversion' is:

1. Dislike
2. Audacious
3. Desolate
4. Alleviate

**Options :**

- 68634070025. 1
- 68634070026. 2
- 68634070027. 3
- 68634070028. 4

**Question Number : 7 Question Id : 68634017731 Question Type : MCQ Option Shuffling : No Is Question Mandatory : No Calculator : None Response Time : N.A Think Time : N.A Minimum Instruction Time : 0 Correct Marks : 4 Wrong Marks : 1**

Synonym of the word 'Aversion' is:

1. Dislike
2. Audacious
3. Desolate
4. Alleviate

**Options :**

- 68634070025. 1
- 68634070026. 2

68634070027. 3

68634070028. 4

**Question Number : 8 Question Id : 68634017732 Question Type : MCQ Option Shuffling : No Is Question Mandatory : No Calculator : None Response Time : N.A Think Time : N.A Minimum Instruction Time : 0 Correct Marks : 4 Wrong Marks : 1**

Fill in the blanks with appropriate prepositions given in order from the options given below:

Just days before the Russian invasion \_\_\_\_\_ Ukraine, \_\_\_\_\_ Moscow's forces massing \_\_\_\_\_ the border, officials in the medieval town of Lutzen, Germany, afforded landmark status \_\_\_\_\_ a Sovietera world war II memorial standing outside a kindergarden in the town center.

1. in, with, of, for
2. in, to, on, with
3. of, with, on, to
4. of, on, to, in

**Options :**

68634070029. 1

68634070030. 2

68634070031. 3

68634070032. 4

**Question Number : 8 Question Id : 68634017732 Question Type : MCQ Option Shuffling : No Is Question Mandatory : No Calculator : None Response Time : N.A Think Time : N.A Minimum Instruction Time : 0 Correct Marks : 4 Wrong Marks : 1**

Fill in the blanks with appropriate prepositions given in order from the options given below:

Just days before the Russian invasion \_\_\_\_\_ Ukraine, \_\_\_\_\_ Moscow's forces massing \_\_\_\_\_ the border, officials in the medieval town of Lutzen, Germany, afforded landmark status \_\_\_\_\_ a Sovietera world war II memorial standing outside a kindergarden in the town center.

1. in, with, of, for
2. in, to, on, with
3. of, with, on, to
4. of, on, to, in

**Options :**

68634070029. 1

68634070030. 2

68634070031. 3

68634070032. 4

**Question Number : 9 Question Id : 68634017733 Question Type : MCQ Option Shuffling : No Is Question Mandatory : No Calculator : None Response Time : N.A Think Time : N.A Minimum Instruction Time : 0 Correct Marks : 4 Wrong Marks : 1**

One word substitution for 'Connected with the brain' is:

1. Celestial
2. Cardiac
3. Cerebral
4. Carnival

**Options :**

- 68634070033. 1
- 68634070034. 2
- 68634070035. 3
- 68634070036. 4

**Question Number : 9 Question Id : 68634017733 Question Type : MCQ Option Shuffling : No Is Question Mandatory : No Calculator : None Response Time : N.A Think Time : N.A Minimum Instruction Time : 0 Correct Marks : 4 Wrong Marks : 1**

One word substitution for 'Connected with the brain' is:

1. Celestial
2. Cardiac
3. Cerebral
4. Carnival

**Options :**

- 68634070033. 1
- 68634070034. 2
- 68634070035. 3
- 68634070036. 4

**Question Number : 10 Question Id : 68634017734 Question Type : MCQ Option Shuffling : No Is Question Mandatory : No Calculator : None Response Time : N.A Think Time : N.A Minimum Instruction Time : 0 Correct Marks : 4 Wrong Marks : 1**

Fill in the blanks with suitable words given below.

Stuti \_\_\_\_\_ a bit \_\_\_\_\_ she was not invited by her friend to attend the party.

1. expressed, than
2. surprised, about
3. grumbled, when
4. took, before

**Options :**

- 68634070037. 1

68634070038. 2  
68634070039. 3  
68634070040. 4

**Question Number : 10 Question Id : 68634017734 Question Type : MCQ Option Shuffling : No Is Question Mandatory :  
No Calculator : None Response Time : N.A Think Time : N.A Minimum Instruction Time : 0  
Correct Marks : 4 Wrong Marks : 1**

Fill in the blanks with suitable words given below.

Stuti \_\_\_\_\_ a bit \_\_\_\_\_ she was not invited by her friend to attend the party.

1. expressed, than
2. surprised, about
3. grumbled, when
4. took, before

**Options :**

68634070037. 1  
68634070038. 2  
68634070039. 3  
68634070040. 4

**Question Number : 11 Question Id : 68634017735 Question Type : MCQ Option Shuffling : No Is Question Mandatory :  
No Calculator : None Response Time : N.A Think Time : N.A Minimum Instruction Time : 0  
Correct Marks : 4 Wrong Marks : 1**

3 boys and 5 girls can complete one work in 8 days. 7 boys can complete the work in 4 days. Number of girls required to finish the work in half day is:

1. 940
2. 280
3. 560
4. 412

**Options :**

68634070041. 1  
68634070042. 2  
68634070043. 3  
68634070044. 4

**Question Number : 11 Question Id : 68634017735 Question Type : MCQ Option Shuffling : No Is Question Mandatory :  
No Calculator : None Response Time : N.A Think Time : N.A Minimum Instruction Time : 0  
Correct Marks : 4 Wrong Marks : 1**



3 boys and 5 girls can complete one work in 8 days. 7 boys can complete the work in 4 days. Number of girls required to finish the work in half day is:

- 1. 940
- 2. 280
- 3. 560
- 4. 412

**Options :**

- 68634070041. 1
- 68634070042. 2
- 68634070043. 3
- 68634070044. 4

**Question Number : 12 Question Id : 68634017736 Question Type : MCQ Option Shuffling : No Is Question Mandatory : No Calculator : None Response Time : N.A Think Time : N.A Minimum Instruction Time : 0**

**Correct Marks : 4 Wrong Marks : 1**

$$\frac{8}{3} \text{ of } 40\% \text{ of } \frac{18}{39} \text{ of } 156 = \text{_____} ?$$

- 1. 152.6
- 2. 76.8
- 3. 38.4
- 4. 54.63

**Options :**

- 68634070045. 1
- 68634070046. 2
- 68634070047. 3
- 68634070048. 4

**Question Number : 12 Question Id : 68634017736 Question Type : MCQ Option Shuffling : No Is Question Mandatory : No Calculator : None Response Time : N.A Think Time : N.A Minimum Instruction Time : 0**

**Correct Marks : 4 Wrong Marks : 1**

$$\frac{8}{3} \text{ of } 40\% \text{ of } \frac{18}{39} \text{ of } 156 = \text{_____} ?$$

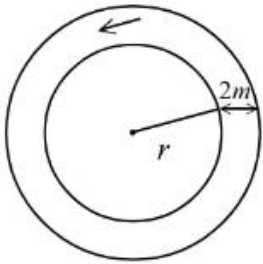
- 1. 152.6
- 2. 76.8
- 3. 38.4
- 4. 54.63

**Options :**

- 68634070045. 1
- 68634070046. 2
- 68634070047. 3
- 68634070048. 4

**Question Number : 13 Question Id : 68634017737 Question Type : MCQ Option Shuffling : No Is Question Mandatory : No Calculator : None Response Time : N.A Think Time : N.A Minimum Instruction Time : 0 Correct Marks : 4 Wrong Marks : 1**

The area of the circular round shown as  $92 \pi \text{ m}^2$  then value of  $r$  is:



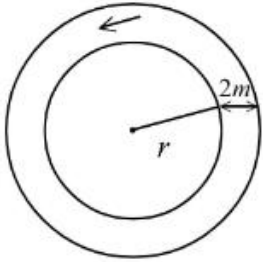
- 1. 18 m
- 2.  $\sqrt{22}$  m
- 3. 2.2 m
- 4. 22 m

**Options :**

- 68634070049. 1
- 68634070050. 2
- 68634070051. 3
- 68634070052. 4

**Question Number : 13 Question Id : 68634017737 Question Type : MCQ Option Shuffling : No Is Question Mandatory : No Calculator : None Response Time : N.A Think Time : N.A Minimum Instruction Time : 0 Correct Marks : 4 Wrong Marks : 1**

The area of the circular round shown as  $92 \pi \text{ m}^2$  then value of  $r$  is:



1. 18 m
2.  $\sqrt{22}$  m
3. 2.2 m
4. 22 m

**Options :**

68634070049. 1  
68634070050. 2  
68634070051. 3  
68634070052. 4

**Question Number : 14 Question Id : 68634017738 Question Type : MCQ Option Shuffling : No Is Question Mandatory : No Calculator : None Response Time : N.A Think Time : N.A Minimum Instruction Time : 0 Correct Marks : 4 Wrong Marks : 1**

$$\frac{108^2 - 104^2}{32^2 - 28^2} = \underline{\hspace{2cm}} ?$$

1.  $3 \cdot 2\bar{6}$
2.  $3 \cdot 2\bar{9}$
3.  $3 \cdot 5\bar{3}$
4.  $3 \cdot 6\bar{2}$

**Options :**

68634070053. 1  
68634070054. 2  
68634070055. 3  
68634070056. 4

**Question Number : 14 Question Id : 68634017738 Question Type : MCQ Option Shuffling : No Is Question Mandatory : No Calculator : None Response Time : N.A Think Time : N.A Minimum Instruction Time : 0 Correct Marks : 4 Wrong Marks : 1**

$$\frac{108^2 - 104^2}{32^2 - 28^2} = \underline{\hspace{2cm}} ?$$

1.  $3.\overline{26}$

2.  $3.\overline{29}$

3.  $3.\overline{53}$

4.  $3.\overline{62}$

**Options :**

68634070053. 1

68634070054. 2

68634070055. 3

68634070056. 4

**Question Number : 15 Question Id : 68634017739 Question Type : MCQ Option Shuffling : No Is Question Mandatory : No Calculator : None Response Time : N.A Think Time : N.A Minimum Instruction Time : 0**

**Correct Marks : 4 Wrong Marks : 1**

The average of first 50 terms of the given series 1,3,5,7 \_\_\_\_\_ is:

1. 45

2. 50

3. 75

4. 100

**Options :**

68634070057. 1

68634070058. 2

68634070059. 3

68634070060. 4

**Question Number : 15 Question Id : 68634017739 Question Type : MCQ Option Shuffling : No Is Question Mandatory : No Calculator : None Response Time : N.A Think Time : N.A Minimum Instruction Time : 0**

**Correct Marks : 4 Wrong Marks : 1**

The average of first 50 terms of the given series 1,3,5,7 \_\_\_\_\_ is:

1. 45

2. 50

3. 75

4. 100

**Options :**

68634070057. 1

68634070058. 2  
68634070059. 3  
68634070060. 4

**Question Number : 16 Question Id : 68634017740 Question Type : MCQ Option Shuffling : No Is Question Mandatory :  
No Calculator : None Response Time : N.A Think Time : N.A Minimum Instruction Time : 0  
Correct Marks : 4 Wrong Marks : 1**

Next number in the given series  
27, 64, 125, 216, 343, \_\_\_\_\_ is:

1. 416
2. 512
3. 686
4. 559

**Options :**

68634070061. 1  
68634070062. 2  
68634070063. 3  
68634070064. 4

**Question Number : 16 Question Id : 68634017740 Question Type : MCQ Option Shuffling : No Is Question Mandatory :  
No Calculator : None Response Time : N.A Think Time : N.A Minimum Instruction Time : 0  
Correct Marks : 4 Wrong Marks : 1**

Next number in the given series  
27, 64, 125, 216, 343, \_\_\_\_\_ is:

1. 416
2. 512
3. 686
4. 559

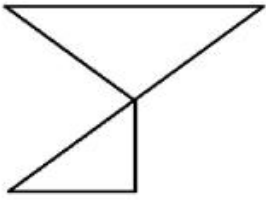
**Options :**

68634070061. 1  
68634070062. 2  
68634070063. 3  
68634070064. 4

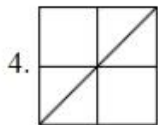
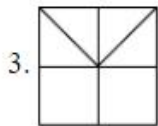
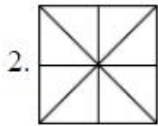

**Question Number : 17 Question Id : 68634017741 Question Type : MCQ Option Shuffling : No Is Question Mandatory :  
No Calculator : None Response Time : N.A Think Time : N.A Minimum Instruction Time : 0  
Correct Marks : 4 Wrong Marks : 1**



Problem figure is embedded in which of the following alternatives?



Problem figure



**Options :**

68634070065. 1

68634070066. 2

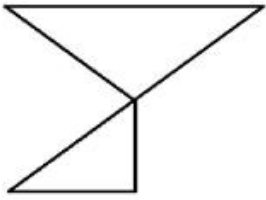
68634070067. 3

68634070068. 4

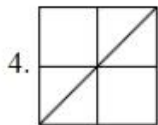
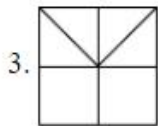
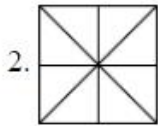

**Question Number : 17 Question Id : 68634017741 Question Type : MCQ Option Shuffling : No Is Question Mandatory : No Calculator : None Response Time : N.A Think Time : N.A Minimum Instruction Time : 0**

**Correct Marks : 4 Wrong Marks : 1**

Problem figure is embedded in which of the following alternatives?



Problem figure



**Options :**

68634070065. 1

68634070066. 2

68634070067. 3

68634070068. 4

**Question Number : 18 Question Id : 68634017742 Question Type : MCQ Option Shuffling : No Is Question Mandatory : No Calculator : None Response Time : N.A Think Time : N.A Minimum Instruction Time : 0**

**Correct Marks : 4 Wrong Marks : 1**

BLOCKED is related to YOLXPVW in the same way as OZFMXS is related to \_\_\_\_\_

1. LAUNCH

2. DEBATE

3. RESULT

4. LABOUR

**Options :**

68634070069. 1

68634070070. 2

68634070071. 3

68634070072. 4

**Question Number : 18 Question Id : 68634017742 Question Type : MCQ Option Shuffling : No Is Question Mandatory : No Calculator : None Response Time : N.A Think Time : N.A Minimum Instruction Time : 0 Correct Marks : 4 Wrong Marks : 1**

BLOCKED is related to YOLXPVW in the same way as OZFMXS is related to \_\_\_\_\_

1. LAUNCH
2. DEBATE
3. RESULT
4. LABOUR

**Options :**

- 68634070069. 1
- 68634070070. 2
- 68634070071. 3
- 68634070072. 4

**Question Number : 19 Question Id : 68634017743 Question Type : MCQ Option Shuffling : No Is Question Mandatory : No Calculator : None Response Time : N.A Think Time : N.A Minimum Instruction Time : 0 Correct Marks : 4 Wrong Marks : 1**

Pointing towards a girl, Anand said "This girl is the daughter of a only child of my father". What is the relation of Anand's wife to that girl?

1. Daughter
2. Mother
3. Aunt
4. Sister

**Options :**

- 68634070073. 1
- 68634070074. 2
- 68634070075. 3
- 68634070076. 4

**Question Number : 19 Question Id : 68634017743 Question Type : MCQ Option Shuffling : No Is Question Mandatory : No Calculator : None Response Time : N.A Think Time : N.A Minimum Instruction Time : 0 Correct Marks : 4 Wrong Marks : 1**

Pointing towards a girl, Anand said "This girl is the daughter of a only child of my father". What is the relation of Anand's wife to that girl?

1. Daughter
2. Mother
3. Aunt
4. Sister

**Options :**

68634070073. 1  
68634070074. 2  
68634070075. 3  
68634070076. 4

**Question Number : 20 Question Id : 68634017744 Question Type : MCQ Option Shuffling : No Is Question Mandatory : No Calculator : None Response Time : N.A Think Time : N.A Minimum Instruction Time : 0 Correct Marks : 4 Wrong Marks : 1**

In a joint family of seven persons A, B, C, D, E, F and G, how B is related to E?

Given that -

- A. There are two married couples
- B. G is a house wife and her husband is a lawyer
- C. C is the wife of B, A is an engineer and grand daughter of G'
- D. D is the father-in-law of C, a doctor and father of E, a professor
- E. F is A's brother and B's son

Choose the correct answer from the options given below:

1. Sister
2. Uncle
3. Cousin
4. Brother

**Options :**

68634070077. 1  
68634070078. 2  
68634070079. 3  
68634070080. 4

**Question Number : 20 Question Id : 68634017744 Question Type : MCQ Option Shuffling : No Is Question Mandatory : No Calculator : None Response Time : N.A Think Time : N.A Minimum Instruction Time : 0 Correct Marks : 4 Wrong Marks : 1**

In a joint family of seven persons A, B, C, D, E, F and G, how B is related to E?

Given that -

- A. There are two married couples
- B. G is a house wife and her husband in a lawyer
- C. C is the wife of B, A is an engineer and grand daughter of G'
- D. D is the father-in-law of C, a doctor and father of E, a professor
- E. F is A's brother and B's son

Choose the correct answer from the options given below:

- 1. Sister
- 2. Uncle
- 3. Cousin
- 4. Brother

**Options :**

- 68634070077. 1
- 68634070078. 2
- 68634070079. 3
- 68634070080. 4

**Question Number : 21 Question Id : 68634017745 Question Type : MCQ Option Shuffling : No Is Question Mandatory : No Calculator : None Response Time : N.A Think Time : N.A Minimum Instruction Time : 0 Correct Marks : 4 Wrong Marks : 1**

The first Indian, who win the Noble Prize, is:

- 1. C.V. Raman
- 2. Amritaya Sen
- 3. Rabindra Nath Tagore
- 4. Chandershekhhar Subramaniam

**Options :**

- 68634070081. 1
- 68634070082. 2
- 68634070083. 3
- 68634070084. 4

**Question Number : 21 Question Id : 68634017745 Question Type : MCQ Option Shuffling : No Is Question Mandatory : No Calculator : None Response Time : N.A Think Time : N.A Minimum Instruction Time : 0 Correct Marks : 4 Wrong Marks : 1**



The first Indian, who win the Noble Prize, is:

1. C.V. Raman
2. Amritaya Sen
3. Rabindra Nath Tagore
4. Chandershekhar Subramaniam

**Options :**

- 68634070081. 1
- 68634070082. 2
- 68634070083. 3
- 68634070084. 4

**Question Number : 22 Question Id : 68634017746 Question Type : MCQ Option Shuffling : No Is Question Mandatory : No Calculator : None Response Time : N.A Think Time : N.A Minimum Instruction Time : 0**

**Correct Marks : 4 Wrong Marks : 1**

Identify the founding members of OPEC in 1960.

- A. Qatar
- B. Iran
- C. Iraq
- D. Kuwait
- E. Saudi Arabia
- F. Venezuela

Choose the correct answer from the options given below:

1. B, C, D, E and F only
2. A, B, C, D and E only
3. A, B, D, E and F only
4. A, C, D, E and F only

**Options :**

- 68634070085. 1
- 68634070086. 2
- 68634070087. 3
- 68634070088. 4

**Question Number : 22 Question Id : 68634017746 Question Type : MCQ Option Shuffling : No Is Question Mandatory : No Calculator : None Response Time : N.A Think Time : N.A Minimum Instruction Time : 0**

**Correct Marks : 4 Wrong Marks : 1**

Identify the founding members of OPEC in 1960.

- A. Qatar
- B. Iran
- C. Iraq
- D. Kuwait
- E. Saudi Arabia
- F. Venezuela

Choose the correct answer from the options given below:

1. B, C, D, E and F only
2. A, B, C, D and E only
3. A, B, D, E and F only
4. A, C, D, E and F only

**Options :**

- 68634070085. 1
- 68634070086. 2
- 68634070087. 3
- 68634070088. 4

**Question Number : 23 Question Id : 68634017747 Question Type : MCQ Option Shuffling : No Is Question Mandatory : No Calculator : None Response Time : N.A Think Time : N.A Minimum Instruction Time : 0 Correct Marks : 4 Wrong Marks : 1**

Which is the largest Upanishad?

1. Brihadara nyaba
2. Chadogya
3. Aitareya
4. Katho

**Options :**

- 68634070089. 1
- 68634070090. 2
- 68634070091. 3
- 68634070092. 4

**Question Number : 23 Question Id : 68634017747 Question Type : MCQ Option Shuffling : No Is Question Mandatory : No Calculator : None Response Time : N.A Think Time : N.A Minimum Instruction Time : 0 Correct Marks : 4 Wrong Marks : 1**

Which is the largest Upanishad?

1. Brihadara nyaba
2. Chadogya
3. Aitareya
4. Katho

**Options :**

68634070089. 1  
68634070090. 2  
68634070091. 3  
68634070092. 4

**Question Number : 24 Question Id : 68634017748 Question Type : MCQ Option Shuffling : No Is Question Mandatory : No Calculator : None Response Time : N.A Think Time : N.A Minimum Instruction Time : 0**

**Correct Marks : 4 Wrong Marks : 1**

Arbitration is defined as:

1. the settlement of labour disputes that takes place between employer and the employees
2. the settlement of disputes between different companies of a large organisation
3. the accounting for expenses or charges as applicable rather than as paid
4. the indicator of self sufficiency of a country

**Options :**

68634070093. 1  
68634070094. 2  
68634070095. 3  
68634070096. 4

**Question Number : 24 Question Id : 68634017748 Question Type : MCQ Option Shuffling : No Is Question Mandatory : No Calculator : None Response Time : N.A Think Time : N.A Minimum Instruction Time : 0**

**Correct Marks : 4 Wrong Marks : 1**

Arbitration is defined as:

1. the settlement of labour disputes that takes place between employer and the employees
2. the settlement of disputes between different companies of a large organisation
3. the accounting for expenses or charges as applicable rather than as paid
4. the indicator of self sufficiency of a country

**Options :**

68634070093. 1  
68634070094. 2

68634070095. 3  
68634070096. 4

**Question Number : 25 Question Id : 68634017749 Question Type : MCQ Option Shuffling : No Is Question Mandatory :  
No Calculator : None Response Time : N.A Think Time : N.A Minimum Instruction Time : 0  
Correct Marks : 4 Wrong Marks : 1**

Year 2023 is celebrated as International Year of.

1. Plant Health
2. Millets
3. Save Earth
4. Sustainable Development

**Options :**

68634070097. 1  
68634070098. 2  
68634070099. 3  
68634070100. 4

**Question Number : 25 Question Id : 68634017749 Question Type : MCQ Option Shuffling : No Is Question Mandatory :  
No Calculator : None Response Time : N.A Think Time : N.A Minimum Instruction Time : 0  
Correct Marks : 4 Wrong Marks : 1**

Year 2023 is celebrated as International Year of.

1. Plant Health
2. Millets
3. Save Earth
4. Sustainable Development

**Options :**

68634070097. 1  
68634070098. 2  
68634070099. 3  
68634070100. 4

## **Part B: Applied Geography and Geoinformatics**

<b>Section Id :</b>	686340352
<b>Section Number :</b>	2
<b>Section type :</b>	Online
<b>Mandatory or Optional :</b>	Mandatory
<b>Number of Questions :</b>	75
<b>Number of Questions to be attempted :</b>	75
<b>Section Marks :</b>	300
<b>Enable Mark as Answered Mark for Review and Clear Response :</b>	Yes

**Maximum Instruction Time :** 0  
**Sub-Section Number :** 1  
**Sub-Section Id :** 686340588  
**Question Shuffling Allowed :** Yes  
**Is Section Default? :** null

**Question Number : 26 Question Id : 68634017750 Question Type : MCQ Option Shuffling : No Is Question Mandatory : No Calculator : None Response Time : N.A Think Time : N.A Minimum Instruction Time : 0 Correct Marks : 4 Wrong Marks : 1**

Which of the following is NOT a reason for pushing of tribal societies into areas marked by less hospitable environments?

1. They hardly ever work in unison.
2. They are incapable of working within the framework of state policies.
3. With simple technology they cannot resist onslaught.
4. Because the economic relations function largely within the kinship framework.

**Options :**

- 68634070101. 1
- 68634070102. 2
- 68634070103. 3
- 68634070104. 4

**Question Number : 26 Question Id : 68634017750 Question Type : MCQ Option Shuffling : No Is Question Mandatory : No Calculator : None Response Time : N.A Think Time : N.A Minimum Instruction Time : 0 Correct Marks : 4 Wrong Marks : 1**

निम्न में से कौन सा जनजातीय समुदायों को कम निवास के योग्य चिन्हित वातावरणों में धकेलने का कारण नहीं है?

1. वे शायद ही कभी इकाई के रूप में कार्य करते हैं ।
2. वे राज्य की नीतियों के ढांचे में कार्य करने में असक्षम हैं ।
3. साधारण तकनीक के साथ वे आक्रमण को रोक नहीं पाते ।
4. क्योंकि आर्थिक संबंध अधिकतर संबंधियों के ढांचे में ही कार्य करते हैं ।

**Options :**

- 68634070101. 1
- 68634070102. 2
- 68634070103. 3
- 68634070104. 4

**Question Number : 27 Question Id : 68634017751 Question Type : MCQ Option Shuffling : No Is Question Mandatory : No Calculator : None Response Time : N.A Think Time : N.A Minimum Instruction Time : 0 Correct Marks : 4 Wrong Marks : 1**

Which of the following country has birth rate equal/below the replacement level?

1. Chad
2. Taiwan
3. Niger
4. Angola

**Options :**

68634070105. 1  
68634070106. 2  
68634070107. 3  
68634070108. 4

**Question Number : 27 Question Id : 68634017751 Question Type : MCQ Option Shuffling : No Is Question Mandatory : No Calculator : None Response Time : N.A Think Time : N.A Minimum Instruction Time : 0 Correct Marks : 4 Wrong Marks : 1**

निम्नलिखित में से कौन से देश में जन्म दर प्रतिस्थापना दर के बराबर / नीचे है?

1. चाड
2. ताइवान
3. नाइजर
4. अंगोला

**Options :**

68634070105. 1  
68634070106. 2  
68634070107. 3  
68634070108. 4

**Question Number : 28 Question Id : 68634017752 Question Type : MCQ Option Shuffling : No Is Question Mandatory : No Calculator : None Response Time : N.A Think Time : N.A Minimum Instruction Time : 0 Correct Marks : 4 Wrong Marks : 1**

\_\_\_\_\_ helped in the settling of high-latitude areas in Russia and Canada.

1. Government policies in respect of migration.
2. High suitability for habitation
3. Quick maturing varieties of foodgrains
4. Social factors.

**Options :**

68634070109. 1



68634070110. 2  
68634070111. 3  
68634070112. 4

**Question Number : 28 Question Id : 68634017752 Question Type : MCQ Option Shuffling : No Is Question Mandatory : No Calculator : None Response Time : N.A Think Time : N.A Minimum Instruction Time : 0 Correct Marks : 4 Wrong Marks : 1**

\_\_\_\_\_ ने रूस और कनाडा के उच्च अक्षांशीय क्षेत्रों के बसाव में सहायता की।

1. प्रवसन से संबंधित सरकारी नीतियां
2. बसाव के लिए उच्च उपयुक्तता
3. शीघ्र पकने वाले खाद्यानों की किस्में
4. सामाजिक कारक

**Options :**

68634070109. 1  
68634070110. 2  
68634070111. 3  
68634070112. 4

**Question Number : 29 Question Id : 68634017753 Question Type : MCQ Option Shuffling : No Is Question Mandatory : No Calculator : None Response Time : N.A Think Time : N.A Minimum Instruction Time : 0 Correct Marks : 4 Wrong Marks : 1**

A town will still persist after its establishment, even if the original site proves unsuitable or the original economic factors in its growth are no longer operating. Which of the following important factor in town development is responsible for it?

1. inertia
2. raw material
3. fishing
4. site in a low land

**Options :**

68634070113. 1  
68634070114. 2  
68634070115. 3  
68634070116. 4

**Question Number : 29 Question Id : 68634017753 Question Type : MCQ Option Shuffling : No Is Question Mandatory : No Calculator : None Response Time : N.A Think Time : N.A Minimum Instruction Time : 0 Correct Marks : 4 Wrong Marks : 1**



एक क़स्बा स्थापना के बाद भी रहेगा चाहे मूल स्थल आवास के अनुपयुक्त पाया जाए या वृद्धि के मूल आर्थिक कारक अब परिचालन में नहीं हों। क़स्बा विकास के निम्नलिखित महत्वपूर्ण कारकों में से कौन सा इसके लिए उत्तरदायी है?

1. अवस्थितत्व
2. कच्चा माल
3. मछली पकड़ना
4. निम्न भूमि का स्थल

**Options :**

- 68634070113. 1
- 68634070114. 2
- 68634070115. 3
- 68634070116. 4

**Question Number : 30 Question Id : 68634017754 Question Type : MCQ Option Shuffling : No Is Question Mandatory : No Calculator : None Response Time : N.A Think Time : N.A Minimum Instruction Time : 0 Correct Marks : 4 Wrong Marks : 1**

Given below are two statements. One is labelled as **Assertion A** and the other is labelled as **Reason R**.

**Assertion A:** Industrial countries depend for their imports of raw materials on the agricultural countries.

**Reason R:** Agricultural countries depend on the industrial countries to absorb their surplus production.

In the light of above statements, choose the correct answer from the options given below:

1. Both A and R are true and R is the correct explanation of A
2. Both A and R are true but R is NOT the correct explanation of A
3. A is true but R is false
4. A is false but R is true

**Options :**

- 68634070117. 1
- 68634070118. 2
- 68634070119. 3
- 68634070120. 4

**Question Number : 30 Question Id : 68634017754 Question Type : MCQ Option Shuffling : No Is Question Mandatory : No Calculator : None Response Time : N.A Think Time : N.A Minimum Instruction Time : 0 Correct Marks : 4 Wrong Marks : 1**

नीचे दो कथन दिए गये हैं: एक अभिकथन (**Assertion A**) के रूप में लिखित है तो दूसरा उसके कारण (**Reason R**) के रूप में:

**अभिकथन A:** औद्योगिक देश कच्चे माल के आयात के लिए कृषि प्रधान देशों पर निर्भर हैं।

**कारण R:** कृषि प्रधान देश अपने अधिशेष उत्पादन की खपत के लिए औद्योगिक देशों पर निर्भर हैं।

उपरोक्त कथनों के आलोक में, नीचे दिए गए विकल्पों में से सही उत्तर का चयन कीजिए।

1. A और R दोनों सत्य हैं और R, A की सही व्याख्या है
2. A और R दोनों सत्य हैं और R, A की सही व्याख्या नहीं है
3. A सत्य है, लेकिन R असत्य है
4. A असत्य है, लेकिन R सत्य है

**Options :**

68634070117. 1  
68634070118. 2  
68634070119. 3  
68634070120. 4

**Question Number : 31 Question Id : 68634017755 Question Type : MCQ Option Shuffling : No Is Question Mandatory : No Calculator : None Response Time : N.A Think Time : N.A Minimum Instruction Time : 0 Correct Marks : 4 Wrong Marks : 1**

Arrange the following distinct phases of India's population growth in chronological order:

- A. The period of Stagnant Population
- B. The period of Rapid Growth
- C. The period of High Growth with definite signs of slowing down.
- D. The period of Steady Growth

Choose the correct answer from the options given below:

1. A, B, C, D
2. B, C, D, A
3. C, A, D, B
4. A, D, B, C

**Options :**

68634070121. 1  
68634070122. 2  
68634070123. 3  
68634070124. 4

**Question Number : 31 Question Id : 68634017755 Question Type : MCQ Option Shuffling : No Is Question Mandatory : No Calculator : None Response Time : N.A Think Time : N.A Minimum Instruction Time : 0**

Correct Marks : 4 Wrong Marks : 1

भारतीय जनसंख्या वृद्धि की सुस्पष्ट प्रावस्थाओं को कालक्रम में व्यवस्थित करें।

- A. स्थिर जनसंख्या की अवधि
- B. तीव्र वृद्धि की अवधि
- C. धीमे होने के निश्चित संकेतों के साथ उच्च वृद्धि की अवधि
- D. स्थिर वृद्धि की अवधि

नीचे दिए गए विकल्पों में से सही उत्तर का चयन कीजिए:

- 1. A, B, C, D
- 2. B, C, D, A
- 3. C, A, D, B
- 4. A, D, B, C

Options :

- 68634070121. 1
- 68634070122. 2
- 68634070123. 3
- 68634070124. 4

Question Number : 32 Question Id : 68634017756 Question Type : MCQ Option Shuffling : No Is Question Mandatory : No Calculator : None Response Time : N.A Think Time : N.A Minimum Instruction Time : 0

Correct Marks : 4 Wrong Marks : 1

Given below are two statements:

**Statement I:** The countries of Europe and North America witnessed a population explosion after the Industrial Revolution.

**Statement II:** Asian, African and Latin American countries witnessed a population explosion in the second half of the twentieth century.

In the light of the above statements, choose the *most appropriate* answer from the options given below:

- 1. Both Statement I and Statement II are correct
- 2. Both Statement I and Statement II are incorrect
- 3. Statement I is correct but Statement II is incorrect
- 4. Statement I is incorrect but Statement II is correct

Options :

- 68634070125. 1
- 68634070126. 2
- 68634070127. 3
- 68634070128. 4

**Question Number : 32 Question Id : 68634017756 Question Type : MCQ Option Shuffling : No Is Question Mandatory : No Calculator : None Response Time : N.A Think Time : N.A Minimum Instruction Time : 0**

**Correct Marks : 4 Wrong Marks : 1**

नीचे दो कथन दिए गए हैं:

**कथन I:** यूरोप और उत्तरी अमेरिकी देश औद्योगिक क्रान्ति के पश्चात् जनसंख्या विस्फोट के साक्षी रहे।

**कथन II:** एशियाई, अफ्रीकी और लैटिन अमेरिकी देश बीसवीं शताब्दी के दूसरे भाग में जनसंख्या विस्फोट के साक्षी रहे।

उपरोक्त कथनों के आलोक में, नीचे दिए गए विकल्पों में से **सबसे उपयुक्त उत्तर** का चयन कीजिए:

1. कथन I और II दोनों सही हैं
2. कथन I और II दोनों गलत हैं
3. कथन I सही है लेकिन कथन II गलत है
4. कथन I गलत है लेकिन कथन II सही है

**Options :**

- 68634070125. 1
- 68634070126. 2
- 68634070127. 3
- 68634070128. 4

**Question Number : 33 Question Id : 68634017757 Question Type : MCQ Option Shuffling : No Is Question Mandatory : No Calculator : None Response Time : N.A Think Time : N.A Minimum Instruction Time : 0**

**Correct Marks : 4 Wrong Marks : 1**

Identify the correct statements about distribution of population in South Asia.

- A. South Asia is one of the major regions of very high concentration of population
- B. Most of the countries in this region have benefited by the early start of industries.
- C. The standard of living in most parts of this region is low.
- D. All available resources have been utilised to the fullest extent.

Choose the correct answer from the options given below:

1. A and B only
2. B and C only
3. A and C only
4. C and D only

**Options :**

- 68634070129. 1
- 68634070130. 2
- 68634070131. 3
- 68634070132. 4



Question Number : 33 Question Id : 68634017757 Question Type : MCQ Option Shuffling : No Is Question Mandatory : No Calculator : None Response Time : N.A Think Time : N.A Minimum Instruction Time : 0 Correct Marks : 4 Wrong Marks : 1

दक्षिण एशिया में जनसंख्या वितरण से संबंधित सही कथनों को पहचाने।

- A. दक्षिण एशिया उच्च जनसंख्या संकेद्रण के प्रमुख क्षेत्रों में से एक है।
- B. इस क्षेत्र के अधिकतर देशों में उद्योगों की प्रारंभिक शुरुआत से लाभ मिला।
- C. इस क्षेत्र के अधिकांश भागों में जीवन स्तर निम्न है।
- D. सभी उपलब्ध संसाधनों का अधिकतम उपभोग हो चुका है।

नीचे दिए गए विकल्पों में से सही उत्तर का चयन कीजिए:

- 1. केवल A और B
- 2. केवल B और C
- 3. केवल A और C
- 4. केवल C और D

Options :

- 68634070129. 1
- 68634070130. 2
- 68634070131. 3
- 68634070132. 4

Question Number : 34 Question Id : 68634017758 Question Type : MCQ Option Shuffling : No Is Question Mandatory : No Calculator : None Response Time : N.A Think Time : N.A Minimum Instruction Time : 0 Correct Marks : 4 Wrong Marks : 1

Match List I with List II

LIST I Town situation		LIST II Example	
A.	Ports-of-call	I.	St. Helen
B.	Constriction or obstruction of route	II.	Copenhagen
C.	Transshipment Point	III.	Timbuktu
D.	Route Convergence	IV.	Khartoum

Choose the correct answer from the options given below:

- 1. A-IV, B-III, C-II, D-I
- 2. A-I, B-II, C-III, D-IV
- 3. A-II, B-I, C-IV, D-III
- 4. A-II, B-III, C-I, D-IV

Options :

- 68634070133. 1
- 68634070134. 2
- 68634070135. 3

68634070136. 4

**Question Number : 34 Question Id : 68634017758 Question Type : MCQ Option Shuffling : No Is Question Mandatory : No Calculator : None Response Time : N.A Think Time : N.A Minimum Instruction Time : 0 Correct Marks : 4 Wrong Marks : 1**

सूची I का सूची II से मिलान कीजिए

सूची I		सूची II	
A.	मार्ग पत्तन (पोर्ट्स ऑफ़ काल)	I.	सेंट हेलेना
B.	मार्ग का संकुचन या अवरुद्ध	II.	कोपनहेगेन
C.	वहानान्तरण बिंदु	III.	टिम्बकटू
D.	मार्ग अभिसरण	IV.	खार्तूम

निम्नलिखित विकल्पों में से सही उत्तर का चयन कीजिए :

1. A-IV, B-III, C-II, D-I
2. A-I, B-II, C-III, D-IV
3. A-II, B-I, C-IV, D-III
4. A-II, B-III, C-I, D-IV

**Options :**

68634070133. 1  
68634070134. 2  
68634070135. 3  
68634070136. 4

**Question Number : 35 Question Id : 68634017759 Question Type : MCQ Option Shuffling : No Is Question Mandatory : No Calculator : None Response Time : N.A Think Time : N.A Minimum Instruction Time : 0 Correct Marks : 4 Wrong Marks : 1**

Which of the following is the unique advantage of a map?

1. It shows only those objects which are physically present.
2. It shows details in their visible shapes and sizes.
3. It cannot represent a theoretical surface.
4. Many visible details in a photograph/on ground can be either removed or suppressed in a map representation.

**Options :**

68634070137. 1  
68634070138. 2  
68634070139. 3  
68634070140. 4

**Question Number : 35 Question Id : 68634017759 Question Type : MCQ Option Shuffling : No Is Question Mandatory : No Calculator : None Response Time : N.A Think Time : N.A Minimum Instruction Time : 0**

**Correct Marks : 4 Wrong Marks : 1**

निम्नलिखित में से मानचित्र की एक अनन्य श्रेष्ठता कौन सी है?

1. यह उन्हीं वस्तुओं को दर्शाता है जो भौतिक रूप में विद्यमान है ।
2. यह विवरणों को दृष्टिगोचर आकृति और आकार में दर्शाता है ।
3. यह एक सैद्धांतिक धरातल को प्रदर्शित नहीं कर सकता ।
4. फोटोग्राफ या धरातल पर दिखाई देने वाले बहुत से विवरणों को मानचित्र प्रदर्शन में हटाया या कम किया जा सकता है ।

**Options :**

68634070137. 1  
68634070138. 2  
68634070139. 3  
68634070140. 4

**Question Number : 36 Question Id : 68634017760 Question Type : MCQ Option Shuffling : No Is Question Mandatory : No Calculator : None Response Time : N.A Think Time : N.A Minimum Instruction Time : 0**

**Correct Marks : 4 Wrong Marks : 1**

A linear road distance on a toposheet with R.F. 1:50,000 is represented by a 40 cm long line. The actual ground distance of the road will be \_\_\_\_\_ kilometers.

1. 2
2. 20
3. 0.2
4. 10

**Options :**

68634070141. 1  
68634070142. 2  
68634070143. 3  
68634070144. 4

**Question Number : 36 Question Id : 68634017760 Question Type : MCQ Option Shuffling : No Is Question Mandatory : No Calculator : None Response Time : N.A Think Time : N.A Minimum Instruction Time : 0**

**Correct Marks : 4 Wrong Marks : 1**



एक रेखीय सड़क की दूरी को प्र. मि. 1:50,000 वाले भू-पत्रक में 40 से.मी. लम्बी रेखा से दर्शाया गया है। सड़क की वास्तविक लम्बाई \_\_\_\_\_ किलोमीटर होगी।

1. 2
2. 20
3. 0.2
4. 10

**Options :**

68634070141. 1
68634070142. 2
68634070143. 3
68634070144. 4

**Question Number : 37 Question Id : 68634017761 Question Type : MCQ Option Shuffling : No Is Question Mandatory : No Calculator : None Response Time : N.A Think Time : N.A Minimum Instruction Time : 0**

**Correct Marks : 4 Wrong Marks : 1**

Which of the following projection is best for Navigation Purposes?

1. Simple Cylindrical Projection
2. Conical Projection with Two Standard Parallels
3. Mercator's Projection
4. Zenithal Stereographic

**Options :**

68634070145. 1
68634070146. 2
68634070147. 3
68634070148. 4

**Question Number : 37 Question Id : 68634017761 Question Type : MCQ Option Shuffling : No Is Question Mandatory : No Calculator : None Response Time : N.A Think Time : N.A Minimum Instruction Time : 0**

**Correct Marks : 4 Wrong Marks : 1**

निम्नलिखित में से कौन सा प्रक्षेप नौसंचालन के लिए सर्वश्रेष्ठ है?

1. साधारण बेलनाकार प्रक्षेप
2. दो मानक अक्षांशों वाला शंकाकार प्रक्षेप
3. मर्केटर प्रक्षेप
4. त्रिविम खमध्य प्रक्षेप

**Options :**

68634070145. 1  
68634070146. 2  
68634070147. 3  
68634070148. 4

**Question Number : 38 Question Id : 68634017762 Question Type : MCQ Option Shuffling : No Is Question Mandatory : No Calculator : None Response Time : N.A Think Time : N.A Minimum Instruction Time : 0 Correct Marks : 4 Wrong Marks : 1**

Which of the following is often used to represent international flow of various commodities?

1. Dot
2. Flow diagram
3. Choropleth
4. Isopleth

**Options :**

68634070149. 1  
68634070150. 2  
68634070151. 3  
68634070152. 4

**Question Number : 38 Question Id : 68634017762 Question Type : MCQ Option Shuffling : No Is Question Mandatory : No Calculator : None Response Time : N.A Think Time : N.A Minimum Instruction Time : 0 Correct Marks : 4 Wrong Marks : 1**

विभिन्न वस्तुओं के अन्तर्राष्ट्रीय संचरण को प्रदर्शित करने के लिए निम्नलिखित में से प्रायः कौन सा प्रयोग किया जाता है?

1. बिंदु
2. प्रवाह आरेख
3. कोरोप्लेथ
4. समान रेखा

**Options :**

68634070149. 1  
68634070150. 2  
68634070151. 3  
68634070152. 4

**Question Number : 39 Question Id : 68634017763 Question Type : MCQ Option Shuffling : No Is Question Mandatory : No Calculator : None Response Time : N.A Think Time : N.A Minimum Instruction Time : 0 Correct Marks : 4 Wrong Marks : 1**

'×' is used to represent \_\_\_\_\_ on a toposheet?

1. Well
2. Sand Dune
3. Fort
4. Deserted Village

**Options :**

68634070153. 1  
68634070154. 2  
68634070155. 3  
68634070156. 4

**Question Number : 39 Question Id : 68634017763 Question Type : MCQ Option Shuffling : No Is Question Mandatory : No Calculator : None Response Time : N.A Think Time : N.A Minimum Instruction Time : 0 Correct Marks : 4 Wrong Marks : 1**

'×' को भूपत्रक पर \_\_\_\_\_ दर्शाने के लिए किया जाता है।

1. कुआँ
2. बालू टिब्बा
3. किला
4. उजड़ा गाँव

**Options :**

68634070153. 1  
68634070154. 2  
68634070155. 3  
68634070156. 4

**Question Number : 40 Question Id : 68634017764 Question Type : MCQ Option Shuffling : No Is Question Mandatory : No Calculator : None Response Time : N.A Think Time : N.A Minimum Instruction Time : 0 Correct Marks : 4 Wrong Marks : 1**

Given below are two statements. One is labelled as **Assertion A** and the other is labelled as **Reason R**.

**Assertion A:** Most of the thematic maps representing the cultural features of the landscape are planimetric maps.

**Reason R:** Planimetric maps give more emphasis to other details and limit the relief portrayal.

In the light of above statements, choose the *correct answer* from the options given below:

1. Both A and R are true and R is the correct explanation of A
2. Both A and R are true but R is NOT the correct explanation of A
3. A is true but R is false
4. A is false but R is true

**Options :**

- 68634070157. 1
- 68634070158. 2
- 68634070159. 3
- 68634070160. 4

**Question Number : 40 Question Id : 68634017764 Question Type : MCQ Option Shuffling : No Is Question Mandatory : No Calculator : None Response Time : N.A Think Time : N.A Minimum Instruction Time : 0 Correct Marks : 4 Wrong Marks : 1**

नीचे दो कथन दिए गये हैं: एक अभिकथन (Assertion A) के रूप में लिखित है तो दूसरा उसके कारण (Reason R) के रूप में:

अभिकथन A: भूदृश्य के सांस्कृतिक लक्षणों को दर्शाने वाले अधिकतर विषय मानचित्र प्लेनेमीट्रिक मानचित्र होते हैं।

कारण R: प्लेनेमीट्रिक मानचित्र अन्य विवरणों पर अधिक बल देते हैं और उच्चावच्च प्रदर्शन को सीमित करते हैं।

उपरोक्त कथनों के आलोक में, नीचे दिए गए विकल्पों में से सही उत्तर का चयन कीजिए।





1. A और R दोनों सत्य हैं और R, A की सही व्याख्या है
2. A और R दोनों सत्य हैं और R, A की सही व्याख्या नहीं है
3. A सत्य है, लेकिन R असत्य है
4. A असत्य है, लेकिन R सत्य है

**Options :**

- 68634070157. 1
- 68634070158. 2
- 68634070159. 3
- 68634070160. 4

**Question Number : 41 Question Id : 68634017765 Question Type : MCQ Option Shuffling : No Is Question Mandatory : No Calculator : None Response Time : N.A Think Time : N.A Minimum Instruction Time : 0 Correct Marks : 4 Wrong Marks : 1**

Arrange the following shades of a choropleth map in ascending order of values represented.

- A. 
- B. 
- C. 
- D. 

Choose the correct answer from the options given below:





- 1. A, C, B, D
- 2. A, B, C, D
- 3. C, D, B, A
- 4. D, C, A, B

**Options :**

- 68634070161. 1
- 68634070162. 2
- 68634070163. 3
- 68634070164. 4

**Question Number : 41 Question Id : 68634017765 Question Type : MCQ Option Shuffling : No Is Question Mandatory : No Calculator : None Response Time : N.A Think Time : N.A Minimum Instruction Time : 0 Correct Marks : 4 Wrong Marks : 1**

वर्णमाला मानचित्र की नीचे दी गई छायाओं को उनके द्वारा प्रदर्शित मानों के आधार पर आरोही क्रम में व्यवस्थित कीजिये।

- A. 
- B. 
- C. 
- D. 

नीचे दिए गए विकल्पों में से सही उत्तर का चयन कीजिए:

1. A, C, B, D
2. A, B, C, D
3. C, D, B, A
4. D, C, A, B

**Options :**

68634070161. 1  
68634070162. 2  
68634070163. 3  
68634070164. 4

**Question Number : 42 Question Id : 68634017766 Question Type : MCQ Option Shuffling : No Is Question Mandatory : No Calculator : None Response Time : N.A Think Time : N.A Minimum Instruction Time : 0 Correct Marks : 4 Wrong Marks : 1**

Given below are two statements:

**Statement I:** Bonne's Projection is not suitable for representation of Africa.

**Statement II:** In Bonne's projection, large chunks of areas falling on the margins away from the central meridian get distorted in shape.

In the light of the above statements, choose the most appropriate answer from the options given below:

1. Both Statement I and Statement II are correct
2. Both Statement I and Statement II are incorrect
3. Statement I is correct but Statement II is incorrect
4. Statement I is incorrect but Statement II is correct

**Options :**

68634070165. 1  
68634070166. 2  
68634070167. 3  
68634070168. 4



Question Number : 42 Question Id : 68634017766 Question Type : MCQ Option Shuffling : No Is Question Mandatory : No Calculator : None Response Time : N.A Think Time : N.A Minimum Instruction Time : 0  
Correct Marks : 4 Wrong Marks : 1

नीचे दो कथन दिए गए हैं:

**कथन I:** अफ्रीका को दशानि के लिए बॉन प्रक्षेप उपयुक्त नहीं है।

**कथन II:** बॉन प्रक्षेप में, केन्द्रीय देशांतर रेखा से दूर किनारे पर स्थित क्षेत्रों के बड़े हिस्सों की आकृति विक्षेपित हो जाती हैं।

उपरोक्त कथनों के आलोक में, नीचे दिए गए विकल्पों में से सबसे उपयुक्त उत्तर का चयन कीजिए:

1. कथन I और II दोनों सही हैं
2. कथन I और II दोनों गलत हैं
3. कथन I सही है लेकिन कथन II गलत है
4. कथन I गलत है लेकिन कथन II सही है

**Options :**

- 68634070165. 1
- 68634070166. 2
- 68634070167. 3
- 68634070168. 4

Question Number : 43 Question Id : 68634017767 Question Type : MCQ Option Shuffling : No Is Question Mandatory : No Calculator : None Response Time : N.A Think Time : N.A Minimum Instruction Time : 0  
Correct Marks : 4 Wrong Marks : 1

Identify the correct statements about Isopleths.

- A. Isochrones connect places which take same amount of time to reach from a given centre.
- B. Isohels are lines joining places having same amount of salinity in sea water.
- C. Lines joining places having equal amount of snow are called Isonifs.
- D. Lines joining places having equal amount of cloudines are known as Isobrnts.

Choose the correct answer from the options given below:

1. A and B only
2. B and C only
3. A and C only
4. C and D only

**Options :**

- 68634070169. 1
- 68634070170. 2



68634070171. 3

68634070172. 4

**Question Number : 43 Question Id : 68634017767 Question Type : MCQ Option Shuffling : No Is Question Mandatory : No Calculator : None Response Time : N.A Think Time : N.A Minimum Instruction Time : 0**

**Correct Marks : 4 Wrong Marks : 1**

सममान रेखाओं के बारे में सही कथनों की पहचान करें।

- A. आइसोक्रीन ऐसे स्थानों को मिलाती है जहाँ किसी केन्द्र से पहुँचने का समान समय लगता है।
- B. समुद्री जल में खारेपन की समान मात्रा वाले स्थानों को मिलाने वाली रेखा आइसोहेल होती है।
- C. समान हिम वाले स्थानों को मिलाने वाली रेखा को आइसोनिफ कहते हैं।
- D. समान मेघाच्छन्नता वाले स्थानों को मिलाने वाली रेखा को आइसोब्रॉन्ट कहते हैं।

नीचे दिए गए विकल्पों में से सही उत्तर का चयन कीजिए:

1. केवल A और B
2. केवल B और C
3. केवल A और C
4. केवल C और D

**Options :**

68634070169. 1

68634070170. 2

68634070171. 3

68634070172. 4

**Question Number : 44 Question Id : 68634017768 Question Type : MCQ Option Shuffling : No Is Question Mandatory : No Calculator : None Response Time : N.A Think Time : N.A Minimum Instruction Time : 0**

**Correct Marks : 4 Wrong Marks : 1**

Match List I with List II

LIST I Map interpretation procedure		LIST II Use	
A.	Index Number of toposheet and the location of the area	I.	gives the extent and general landforms of the area
B.	Scale of the map and the contour interval	II.	gives an idea about drainage and transportation
C.	Linear features	III.	gives an idea of the general characteristics of physiographic divisions
D.	Superimpose contour map over a land use map	IV.	provides the relationship between the degree of slope and the type the land use

Choose the correct answer from the options given below:

1. A-III, B-I, C-II, D-IV
2. A-I, B-IV, C-II, D-III
3. A-II, B-I, C-III, D-IV
4. A-III, B-II, C-I, D-IV

**Options :**

- 68634070173. 1
- 68634070174. 2
- 68634070175. 3
- 68634070176. 4

**Question Number : 44 Question Id : 68634017768 Question Type : MCQ Option Shuffling : No Is Question Mandatory : No Calculator : None Response Time : N.A Think Time : N.A Minimum Instruction Time : 0 Correct Marks : 4 Wrong Marks : 1**

सूची I का सूची II से मिलान कीजिए

सूची I		सूची II	
A.	स्थलाकृति मानचित्रों की सूचक संख्या और क्षेत्रों की अवस्थिति	I.	क्षेत्र का विस्तार और सामान्य स्थलाकृतियों की जानकारी
B.	मानचित्र की मापनी और समोच्चय रेखाओं का अन्तराल	II.	परिवहन और अपवाह के बारे में जानकारी
C.	रेखीय लक्षण	III.	भौतिक विभाजनों की सामान्य विशेषताओं की जानकारी
D.	एक भूमि उपयोग मानचित्र पर समोच्चय रेखा मानचित्र का अध्यारोपण	IV.	भूमि उपयोग के प्रकार और ढलान की डिग्री के मध्य संबंध की जानकारी

निम्नलिखित विकल्पों में से सही उत्तर का चयन कीजिए :

1. A-III, B-I, C-II, D-IV
2. A-I, B-IV, C-II, D-III
3. A-II, B-I, C-III, D-IV
4. A-III, B-II, C-I, D-IV

**Options :**

68634070173. 1  
68634070174. 2  
68634070175. 3  
68634070176. 4

**Question Number : 45 Question Id : 68634017769 Question Type : MCQ Option Shuffling : No Is Question Mandatory : No Calculator : None Response Time : N.A Think Time : N.A Minimum Instruction Time : 0 Correct Marks : 4 Wrong Marks : 1**

Which of the following is an example of high ecological productivity region?

1. alluvial plains
2. deserts
3. snow covered wastelands
4. deep ocean areas

**Options :**

68634070177. 1  
68634070178. 2  
68634070179. 3  
68634070180. 4

**Question Number : 45 Question Id : 68634017769 Question Type : MCQ Option Shuffling : No Is Question Mandatory : No Calculator : None Response Time : N.A Think Time : N.A Minimum Instruction Time : 0 Correct Marks : 4 Wrong Marks : 1**

निम्न में से कौन सा उच्च पारिस्थितिकीय उत्पादकता क्षेत्र का एक उदाहरण है ?

1. जलोढ़ मैदान
2. मरुस्थल
3. हिमाच्छादित निर्जन क्षेत्र
4. गहरे महासागरीय क्षेत्र

**Options :**

68634070177. 1  
68634070178. 2  
68634070179. 3  
68634070180. 4

**Question Number : 46 Question Id : 68634017770 Question Type : MCQ Option Shuffling : No Is Question Mandatory : No Calculator : None Response Time : N.A Think Time : N.A Minimum Instruction Time : 0 Correct Marks : 4 Wrong Marks : 1**

Which of the following is an example of Nekton Marine Community?

1. Algae
2. Diatom
3. Seal
4. Molluscas

**Options :**

68634070181. 1  
68634070182. 2  
68634070183. 3  
68634070184. 4

**Question Number : 46 Question Id : 68634017770 Question Type : MCQ Option Shuffling : No Is Question Mandatory : No Calculator : None Response Time : N.A Think Time : N.A Minimum Instruction Time : 0 Correct Marks : 4 Wrong Marks : 1**

निम्न में से कौन सा नेकटन समुद्री समुदाय का एक उदाहरण है?

1. एल्गी
2. डायटम
3. सील
4. मोल्यूसकस

**Options :**

68634070181. 1

68634070182. 2  
68634070183. 3  
68634070184. 4

**Question Number : 47 Question Id : 68634017771 Question Type : MCQ Option Shuffling : No Is Question Mandatory : No Calculator : None Response Time : N.A Think Time : N.A Minimum Instruction Time : 0 Correct Marks : 4 Wrong Marks : 1**

Which of the following is NOT included in the eight National Missions of the National Action Plan on Climate Change (NAPCC) - 2008?

1. The National Mission on Cleanliness
2. The National Solar Mission
3. The National Mission for a Green India
4. The National Mission for Sustainable Agriculture

**Options :**

68634070185. 1  
68634070186. 2  
68634070187. 3  
68634070188. 4

**Question Number : 47 Question Id : 68634017771 Question Type : MCQ Option Shuffling : No Is Question Mandatory : No Calculator : None Response Time : N.A Think Time : N.A Minimum Instruction Time : 0 Correct Marks : 4 Wrong Marks : 1**

जलवायु परिवर्तन पर राष्ट्रीय कार्य योजना (NAPCC) - 2008 के आठ राष्ट्रीय मिशनों में निम्न में से कौन सा सम्मिलित नहीं है?

1. स्वच्छता का राष्ट्रीय मिशन
2. राष्ट्रीय सौर मिशन
3. हरित भारत का राष्ट्रीय मिशन
4. सतत कृषि का राष्ट्रीय मिशन

**Options :**

68634070185. 1  
68634070186. 2  
68634070187. 3  
68634070188. 4

**Question Number : 48 Question Id : 68634017772 Question Type : MCQ Option Shuffling : No Is Question Mandatory : No Calculator : None Response Time : N.A Think Time : N.A Minimum Instruction Time : 0 Correct Marks : 4 Wrong Marks : 1**

In which of the following sustainable development is defined as development which respects ecological constraints and imperatives of social justice?

1. The Wildlife Protection Act
2. The Air (Prevention and Control of Pollution) Act
3. The Forest Conservation Act
4. National Environment Policy

**Options :**

- 68634070189. 1
- 68634070190. 2
- 68634070191. 3
- 68634070192. 4

**Question Number : 48 Question Id : 68634017772 Question Type : MCQ Option Shuffling : No Is Question Mandatory : No Calculator : None Response Time : N.A Think Time : N.A Minimum Instruction Time : 0 Correct Marks : 4 Wrong Marks : 1**

निम्न में से किस में सतत विकास को एक विकास के रूप में परिभाषित किया गया है जो पारिस्थितिकी प्रतिबंधों और सामाजिक न्याय के आदेशकों का सम्मान करता है?

1. वन्यजीव संरक्षण अधिनियम
2. वायु (प्रदूषण नियंत्रण और रोकथाम) अधिनियम
3. वन संरक्षण अधिनियम
4. राष्ट्रीय पर्यावरण नीति

**Options :**

- 68634070189. 1
- 68634070190. 2
- 68634070191. 3
- 68634070192. 4

**Question Number : 49 Question Id : 68634017773 Question Type : MCQ Option Shuffling : No Is Question Mandatory : No Calculator : None Response Time : N.A Think Time : N.A Minimum Instruction Time : 0 Correct Marks : 4 Wrong Marks : 1**



Given below are two statements. One is labelled as **Assertion A** and the other is labelled as **Reason R**.

**Assertion A:** Ecosystem instability refers to that state when an ecosystem is unable to adjust with environmental changes.

**Reason R:** Rapid rate of mass felling of trees in a forest ecosystem causes ecosystem instability.

In the light of above statements, choose the correct answer from the options given below:

1. Both A and R are true and R is the correct explanation of A
2. Both A and R are true but R is NOT the correct explanation of A
3. A is true but R is false
4. A is false but R is true

**Options :**

68634070193. 1
68634070194. 2
68634070195. 3
68634070196. 4

**Question Number : 49 Question Id : 68634017773 Question Type : MCQ Option Shuffling : No Is Question Mandatory : No Calculator : None Response Time : N.A Think Time : N.A Minimum Instruction Time : 0 Correct Marks : 4 Wrong Marks : 1**

नीचे दो कथन दिए गये हैं: एक अभिकथन (Assertion A) के रूप में लिखित है तो दूसरा उसके कारण (Reason R) के रूप में:

**अभिकथन A:** पारिस्थितिकी अस्थिरता उस अवस्था को दर्शाती है जब पारिस्थितिकी तंत्र पर्यावरण परिवर्तन के साथ समायोजन नहीं कर पाता है ।

**कारण R:** वन्य पारिस्थितिकी तंत्र में अधिक मात्रा में वृक्षों को तेज गति से काटना पारिस्थितिकी अस्थिरता का कारण होता है ।

उपरोक्त कथनों के आलोक में, नीचे दिए गए विकल्पों में से सही उत्तर का चयन कीजिए ।

1. A और R दोनों सत्य हैं और R, A की सही व्याख्या है
2. A और R दोनों सत्य हैं और R, A की सही व्याख्या नहीं है
3. A सत्य है, लेकिन R असत्य है
4. A असत्य है, लेकिन R सत्य है

**Options :**

68634070193. 1
68634070194. 2
68634070195. 3

68634070196. 4

**Question Number : 50 Question Id : 68634017774 Question Type : MCQ Option Shuffling : No Is Question Mandatory : No Calculator : None Response Time : N.A Think Time : N.A Minimum Instruction Time : 0 Correct Marks : 4 Wrong Marks : 1**

Arrange the various government initiatives in chronological order:

- A. National Forest Policy
- B. Wildlife (Protection) Act
- C. National Environment Policy
- D. Forest Conservation Act

Choose the correct answer from the options given below:

- 1. A, B, C, D
- 2. B, D, A, C
- 3. C, A, B, D
- 4. C, B, D, A

**Options :**

- 68634070197. 1
- 68634070198. 2
- 68634070199. 3
- 68634070200. 4

**Question Number : 50 Question Id : 68634017774 Question Type : MCQ Option Shuffling : No Is Question Mandatory : No Calculator : None Response Time : N.A Think Time : N.A Minimum Instruction Time : 0 Correct Marks : 4 Wrong Marks : 1**

विभिन्न सरकारी प्रयासों को कालक्रम में व्यवस्थित कीजिये।

- A. राष्ट्रीय वन्य नीति
- B. वन्यजीव (संरक्षण) अधिनियम
- C. राष्ट्रीय पर्यावरण नीति
- D. वन संरक्षण अधिनियम

नीचे दिए गए विकल्पों में से सही उत्तर का चयन कीजिए:

- 1. A, B, C, D
- 2. B, D, A, C
- 3. C, A, B, D
- 4. C, B, D, A

**Options :**

- 68634070197. 1
- 68634070198. 2

68634070199. 3

68634070200. 4

**Question Number : 51 Question Id : 68634017775 Question Type : MCQ Option Shuffling : No Is Question Mandatory : No Calculator : None Response Time : N.A Think Time : N.A Minimum Instruction Time : 0 Correct Marks : 4 Wrong Marks : 1**

Given below are two statements:

**Statement I:** The organic elements of plants and animals are released through decomposition only.

**Statement II:** Some portions of organic matter of an ecosystem are released to the atmosphere.

In the light of the above statements, choose the *most appropriate* answer from the options given below:

1. Both Statement I and Statement II are correct
2. Both Statement I and Statement II are incorrect
3. Statement I is correct but Statement II is incorrect
4. Statement I is incorrect but Statement II is correct

**Options :**

68634070201. 1

68634070202. 2

68634070203. 3

68634070204. 4

**Question Number : 51 Question Id : 68634017775 Question Type : MCQ Option Shuffling : No Is Question Mandatory : No Calculator : None Response Time : N.A Think Time : N.A Minimum Instruction Time : 0 Correct Marks : 4 Wrong Marks : 1**

नीचे दो कथन दिए गए हैं:

**कथन I:** पादप और जीवों के जैव तत्व केवल विघटन द्वारा वियुक्त होते हैं ।

**कथन II:** पारिस्थितिकी तंत्र के जैव पदार्थ का कुछ अंश वायुमण्डल में वियुक्त होता है ।

उपरोक्त कथनों के आलोक में, नीचे दिए गए विकल्पों में से सबसे उपयुक्त उत्तर का चयन कीजिए:

1. कथन I और II दोनों सही हैं
2. कथन I और II दोनों गलत हैं
3. कथन I सही है लेकिन कथन II गलत है
4. कथन I गलत है लेकिन कथन II सही है

**Options :**

68634070201. 1

68634070202. 2  
68634070203. 3  
68634070204. 4

**Question Number : 52 Question Id : 68634017776 Question Type : MCQ Option Shuffling : No Is Question Mandatory : No Calculator : None Response Time : N.A Think Time : N.A Minimum Instruction Time : 0 Correct Marks : 4 Wrong Marks : 1**

Identify correct statements about solid waste pollution.

- A. There is a direct negative relationship between the amount of solid wastes produced and the affluence.
- B. Use and throwaway culture has been responsible for the acute problem of solid waste pollution.
- C. The plastic and polythenes have become nuisance in most of the Indian cities.
- D. Most of the used items in developed countries are reused and recycled.

Choose the correct answer from the options given below:

- 1. B and C only
- 2. A and C only
- 3. C and D only
- 4. A and D only

**Options :**

68634070205. 1  
68634070206. 2  
68634070207. 3  
68634070208. 4

**Question Number : 52 Question Id : 68634017776 Question Type : MCQ Option Shuffling : No Is Question Mandatory : No Calculator : None Response Time : N.A Think Time : N.A Minimum Instruction Time : 0 Correct Marks : 4 Wrong Marks : 1**

ठोस कचरा प्रदूषण के बारे में सही कथन पहचाने।

- A. धनाइयता और ठोस कचरा उत्पादन के मध्य प्रत्यक्ष ऋणात्मक संबंध है।
- B. ठोस कचरा प्रदूषण की तीव्र / भीषण समस्या के लिए प्रयोग करें और फेंक दे की संस्कृति जिम्मेवार है।
- C. अधिकांश भारतीय शहरों में प्लास्टिक और पोलीथिन एक समस्या बन गया है।
- D. विकसित देशों में अधिकांश उपयोगित वस्तुएं पुनः उपयोगित तथा पुनः चक्रित होती हैं।

नीचे दिए गए विकल्पों में से सही उत्तर का चयन कीजिए:

- 1. केवल B और C
- 2. केवल A और C
- 3. केवल C और D
- 4. केवल A और D

**Options :**



68634070205. 1  
68634070206. 2  
68634070207. 3  
68634070208. 4

**Question Number : 53 Question Id : 68634017777 Question Type : MCQ Option Shuffling : No Is Question Mandatory : No Calculator : None Response Time : N.A Think Time : N.A Minimum Instruction Time : 0 Correct Marks : 4 Wrong Marks : 1**

Match List I with List II

LIST I: Air Pollutant		LIST II: Chief Source	
A.	Lead	I.	Petrol filling stations
B.	Benzene	II.	electroplating
C.	Cadmium	III.	construction activities
D.	Particulate Matter	IV.	Smelter and refinery processes

Choose the correct answer from the options given below:

1. A-IV, B-I, C-II, D-III
2. A-III, B-II, C-I, D-IV
3. A-III, B-IV, C-I, D-II
4. A-III, B-I, C-II, D-IV

**Options :**

68634070209. 1  
68634070210. 2  
68634070211. 3  
68634070212. 4

**Question Number : 53 Question Id : 68634017777 Question Type : MCQ Option Shuffling : No Is Question Mandatory : No Calculator : None Response Time : N.A Think Time : N.A Minimum Instruction Time : 0 Correct Marks : 4 Wrong Marks : 1**

सूची I का सूची II से मिलान कीजिए

सूची I (वायु प्रदूषण)		सूची II (मुख्य स्रोत)	
A.	सीसा	I.	पेट्रोल भरण स्टेशन
B.	बैंजिन	II.	विद्युतलेपन
C.	कैडमियम	III.	निर्माण गतिविधियाँ
D.	कणीकिय पदार्थ	IV.	परिष्करण तथा प्रगलन प्रक्रिया

निम्नलिखित विकल्पों में से सही उत्तर का चयन कीजिए :

1. A-IV, B-I, C-II, D-III

2. A-III, B-II, C-I, D-IV

3. A-III, B-IV, C-I, D-II

4. A-III, B-I, C-II, D-IV

**Options :**

68634070209. 1

68634070210. 2

68634070211. 3

68634070212. 4

**Question Number : 54 Question Id : 68634017778 Question Type : MCQ Option Shuffling : No Is Question Mandatory : No Calculator : None Response Time : N.A Think Time : N.A Minimum Instruction Time : 0**

**Correct Marks : 4 Wrong Marks : 1**

Purna river is the tributary of which one of the following rivers?

1. Manas

2. Tista

3. Tapi

4. Kosi

**Options :**

68634070213. 1

68634070214. 2

68634070215. 3

68634070216. 4

**Question Number : 54 Question Id : 68634017778 Question Type : MCQ Option Shuffling : No Is Question Mandatory : No Calculator : None Response Time : N.A Think Time : N.A Minimum Instruction Time : 0**

**Correct Marks : 4 Wrong Marks : 1**



पूर्णा नदी निम्न में से किस एक की सहायक नदी है ?

1. मनास
2. तीस्ता
3. ताप्ती (तापी)
4. कोसी

**Options :**

68634070213. 1  
68634070214. 2  
68634070215. 3  
68634070216. 4

**Question Number : 55 Question Id : 68634017779 Question Type : MCQ Option Shuffling : No Is Question Mandatory : No Calculator : None Response Time : N.A Think Time : N.A Minimum Instruction Time : 0**

**Correct Marks : 4 Wrong Marks : 1**

As per Census of India, 2011, which one of the following states has lowest sex ratio?

1. Goa
2. Punjab
3. Kerala
4. Rajasthan

**Options :**

68634070217. 1  
68634070218. 2  
68634070219. 3  
68634070220. 4

**Question Number : 55 Question Id : 68634017779 Question Type : MCQ Option Shuffling : No Is Question Mandatory : No Calculator : None Response Time : N.A Think Time : N.A Minimum Instruction Time : 0**

**Correct Marks : 4 Wrong Marks : 1**

भारत की जनगणना, 2011 के अनुसार, निम्न में से किस एक राज्य का लिंगानुपात सबसे कम है?

1. गोवा
2. पंजाब
3. केरल
4. राजस्थान

**Options :**

68634070217. 1

68634070218. 2  
68634070219. 3  
68634070220. 4

**Question Number : 56 Question Id : 68634017780 Question Type : MCQ Option Shuffling : No Is Question Mandatory : No Calculator : None Response Time : N.A Think Time : N.A Minimum Instruction Time : 0 Correct Marks : 4 Wrong Marks : 1**

Allahabad/Prayagraj is a typical example of which of the following settlement type?

1. Triangular Settlement
2. Star Pattern
3. Radial Pattern
4. Hollow Settlement

**Options :**

68634070221. 1  
68634070222. 2  
68634070223. 3  
68634070224. 4

**Question Number : 56 Question Id : 68634017780 Question Type : MCQ Option Shuffling : No Is Question Mandatory : No Calculator : None Response Time : N.A Think Time : N.A Minimum Instruction Time : 0 Correct Marks : 4 Wrong Marks : 1**

इलाहाबाद/प्रयागराज निम्न में से किस एक अधिवास प्रकार का विशिष्ट उदाहरण है?

1. त्रिभुजाकार अधिवास
2. तारा प्रतिरूप
3. वृताकार प्रतिरूप
4. खोखला अधिवास

**Options :**

68634070221. 1  
68634070222. 2  
68634070223. 3  
68634070224. 4

**Question Number : 57 Question Id : 68634017781 Question Type : MCQ Option Shuffling : No Is Question Mandatory : No Calculator : None Response Time : N.A Think Time : N.A Minimum Instruction Time : 0 Correct Marks : 4 Wrong Marks : 1**

Bhadla Solar Park is located in \_\_\_\_\_.

1. Jharkhand
2. West Bengal
3. Odisha
4. Rajasthan

**Options :**

68634070225. 1  
68634070226. 2  
68634070227. 3  
68634070228. 4

**Question Number : 57 Question Id : 68634017781 Question Type : MCQ Option Shuffling : No Is Question Mandatory : No Calculator : None Response Time : N.A Think Time : N.A Minimum Instruction Time : 0 Correct Marks : 4 Wrong Marks : 1**

भडला सौर पार्क \_\_\_\_\_ में स्थित है।

1. झारखंड
2. पश्चिम बंगाल
3. उड़ीसा
4. राजस्थान

**Options :**

68634070225. 1  
68634070226. 2  
68634070227. 3  
68634070228. 4

**Question Number : 58 Question Id : 68634017782 Question Type : MCQ Option Shuffling : No Is Question Mandatory : No Calculator : None Response Time : N.A Think Time : N.A Minimum Instruction Time : 0 Correct Marks : 4 Wrong Marks : 1**

Which of the following combination of state and type of shifting cultivation is NOT correct?

1. Andhra Pradesh - Podu
2. Assam - Jhum
3. Kerala - Ponam
4. Tamil Nadu - Masha

**Options :**

68634070229. 1

68634070230. 2  
68634070231. 3  
68634070232. 4

**Question Number : 58 Question Id : 68634017782 Question Type : MCQ Option Shuffling : No Is Question Mandatory : No Calculator : None Response Time : N.A Think Time : N.A Minimum Instruction Time : 0 Correct Marks : 4 Wrong Marks : 1**

निम्न में से किस राज्य और स्थानान्तरी कृषि का युग्म सही नहीं है?

1. आंध्रप्रदेश - पोडू
2. असम- झूम
3. केरल - पोनम
4. तमिलनाडु - मासा

**Options :**

68634070229. 1  
68634070230. 2  
68634070231. 3  
68634070232. 4

**Question Number : 59 Question Id : 68634017783 Question Type : MCQ Option Shuffling : No Is Question Mandatory : No Calculator : None Response Time : N.A Think Time : N.A Minimum Instruction Time : 0 Correct Marks : 4 Wrong Marks : 1**

Arrange the following Union Territories in descending order of their density of population, as per the Census of India, 2011?

- A. Andaman and Nicobar
- B. Lakshadweep
- C. Puducherry
- D. Dadra and Nagar Haveli

Choose the correct answer from the options given below:

1. C, B, D, A
2. C, D, A, B
3. C, A, D, B,
4. D, C, B, A

**Options :**

68634070233. 1  
68634070234. 2  
68634070235. 3  
68634070236. 4

**Question Number : 59 Question Id : 68634017783 Question Type : MCQ Option Shuffling : No Is Question Mandatory : No Calculator : None Response Time : N.A Think Time : N.A Minimum Instruction Time : 0 Correct Marks : 4 Wrong Marks : 1**

भारत की जनगणना 2011 के अनुसार, निम्न केंद्र शासित प्रदेशों को जनसंख्या घनत्व के आधार पर अवरोही क्रम में व्यवस्थित कीजिए।

- A. अंडमान और निकोबार
- B. लक्षदीप
- C. पुदुचैरी
- D. दादरा और नगर हवेली

नीचे दिए गए विकल्पों में से सही उत्तर का चयन कीजिए:

- 1. C, B, D, A
- 2. C, D, A, B
- 3. C, A, D, B,
- 4. D, C, B, A

**Options :**

- 68634070233. 1
- 68634070234. 2
- 68634070235. 3
- 68634070236. 4

**Question Number : 60 Question Id : 68634017784 Question Type : MCQ Option Shuffling : No Is Question Mandatory : No Calculator : None Response Time : N.A Think Time : N.A Minimum Instruction Time : 0 Correct Marks : 4 Wrong Marks : 1**

Given below are two statements:

**Statement I:** Meanders in Jhelum river in Kashmir valley are caused by local base level provided by erstwhile larger lake of which the present Dal Lake is a small part.

**Statement II:** The word 'Shiwalik' has its origin in the geological formation found in and around a place called Sivawala near Dehradun.

In the light of the above statements, choose the most appropriate answer from the options given below:

- 1. Both Statement I and Statement II are correct
- 2. Both Statement I and Statement II are incorrect
- 3. Statement I is correct but Statement II is incorrect
- 4. Statement I is incorrect but Statement II is correct

**Options :**

- 68634070237. 1
- 68634070238. 2
- 68634070239. 3

**Question Number : 60 Question Id : 68634017784 Question Type : MCQ Option Shuffling : No Is Question Mandatory : No Calculator : None Response Time : N.A Think Time : N.A Minimum Instruction Time : 0 Correct Marks : 4 Wrong Marks : 1**

नीचे दो कथन दिए गए हैं:

**कथन I:** कश्मीर घाटी में झेलम नदी के विसर्प का कारण स्थानीय आधार तल है जो एक भूतपूर्व झील द्वारा बना है डल झील जिसका एक छोटा भाग है।

**कथन II:** 'शिवालिक' शब्द की उत्पत्ति देहरादून के निकट शिवाला नामक स्थान और उसके आस पास पाई जाने वाली भू-ग्रभिय संरचना के आधार हुई है।

उपरोक्त कथनों के आलोक में, नीचे दिए गए विकल्पों में से सबसे उपयुक्त उत्तर का चयन कीजिए:

1. कथन I और II दोनों सही हैं
2. कथन I और II दोनों गलत हैं
3. कथन I सही है लेकिन कथन II गलत है
4. कथन I गलत है लेकिन कथन II सही है

**Options :**

68634070237. 1

68634070238. 2

68634070239. 3

68634070240. 4

**Question Number : 61 Question Id : 68634017785 Question Type : MCQ Option Shuffling : No Is Question Mandatory : No Calculator : None Response Time : N.A Think Time : N.A Minimum Instruction Time : 0 Correct Marks : 4 Wrong Marks : 1**



Which of the following statements are correct?

- A. Tata Iron & Steel Company started the production of Steel in 1909.
- B. Bhilai Hindustan Steel Limited plant is situated on Haora-Mumbai Railway line.
- C. JSW Steel Ltd. is situated in Hisar, Haryana.
- D. Korba Thermal Plant supplies power to Korba Aluminium Plant.

Choose the correct answer from the options given below:

- 1. A and B only
- 2. B and C only
- 3. C and D only
- 4. B and D only

**Options :**

- 68634070241. 1
- 68634070242. 2
- 68634070243. 3
- 68634070244. 4

**Question Number : 61 Question Id : 68634017785 Question Type : MCQ Option Shuffling : No Is Question Mandatory : No Calculator : None Response Time : N.A Think Time : N.A Minimum Instruction Time : 0 Correct Marks : 4 Wrong Marks : 1**

निम्न में से कौन से कथन सही हैं?

- A. टाटा आयरन एंड स्टील कम्पनी ने स्टील का उत्पादन 1909 में शुरू किया था।
- B. भिलाई हिंदुस्तान स्टील लिमिटेड प्लांट हावड़ा-मुम्बई रेल मार्ग पर स्थित है।
- C. जे.एस.डब्ल्यू. स्टील लिमिटेड हिंसार, हरियाणा में स्थित है।
- D. कोरबा ताप संयंत्र कोरबा एल्युमिनियम संयंत्र को विद्युत की आपूर्ति करता है।

नीचे दिए गए विकल्पों में से सही उत्तर का चयन कीजिए:

- 1. केवल A और B
- 2. केवल B और C
- 3. केवल C और D
- 4. केवल B और D

**Options :**

- 68634070241. 1
- 68634070242. 2
- 68634070243. 3
- 68634070244. 4

**Question Number : 62 Question Id : 68634017786 Question Type : MCQ Option Shuffling : No Is Question Mandatory : No Calculator : None Response Time : N.A Think Time : N.A Minimum Instruction Time : 0**

Correct Marks : 4 Wrong Marks : 1

Match List I with List II

LIST I: Peaks		LIST II: Place/Location	
A.	Saddle	I.	Great Nicobar
B.	Mount Diavolo	II.	Middle Andaman
C.	Mount Koyob	III.	North Andaman
D.	Mount Thuiller	IV.	South Andaman

Choose the correct answer from the options given below:

1. A-III, B-II, C-I, D-IV
2. A-III, B-II, C-IV, D-I
3. A-II, B-III, C-I, D-IV
4. A-II, B-III, C-IV, D-I

Options :

68634070245. 1  
68634070246. 2  
68634070247. 3  
68634070248. 4

Question Number : 62 Question Id : 68634017786 Question Type : MCQ Option Shuffling : No Is Question Mandatory : No Calculator : None Response Time : N.A Think Time : N.A Minimum Instruction Time : 0

Correct Marks : 4 Wrong Marks : 1

सूची I का सूची II से मिलान कीजिए

सूची I (चोटी/शिखर)		सूची II (स्थान/स्थिति)	
A.	सैडल	I.	ग्रेट निकोबार
B.	माउंट डियोवोलो	II.	मध्य अंडमान
C.	माउंट कोयोब	III.	उत्तरी अंडमान
D.	माउंट थुईल्लर	IV.	दक्षिणी अंडमान

निम्नलिखित विकल्पों में से सही उत्तर का चयन कीजिए :

1. A-III, B-II, C-I, D-IV
2. A-III, B-II, C-IV, D-I
3. A-II, B-III, C-I, D-IV
4. A-II, B-III, C-IV, D-I

Options :

68634070245. 1  
68634070246. 2  
68634070247. 3  
68634070248. 4

**Question Number : 63 Question Id : 68634017787 Question Type : MCQ Option Shuffling : No Is Question Mandatory : No Calculator : None Response Time : N.A Think Time : N.A Minimum Instruction Time : 0 Correct Marks : 4 Wrong Marks : 1**

Which one of the following industries is most widely distributed?

1. Iron and Steel Industry
2. Sugar Industry
3. Silk Industry
4. Cotton textile

**Options :**

68634070249. 1  
68634070250. 2  
68634070251. 3  
68634070252. 4

**Question Number : 63 Question Id : 68634017787 Question Type : MCQ Option Shuffling : No Is Question Mandatory : No Calculator : None Response Time : N.A Think Time : N.A Minimum Instruction Time : 0 Correct Marks : 4 Wrong Marks : 1**

निम्न में से कौन सा उद्योग सर्वाधिक व्यापक रूप में वितरित है?

1. लौह और इस्पात उद्योग
2. चीनी उद्योग
3. रेशम उद्योग
4. सूती वस्त्र उद्योग

**Options :**

68634070249. 1  
68634070250. 2  
68634070251. 3  
68634070252. 4

**Question Number : 64 Question Id : 68634017788 Question Type : MCQ Option Shuffling : No Is Question Mandatory : No Calculator : None Response Time : N.A Think Time : N.A Minimum Instruction Time : 0 Correct Marks : 4 Wrong Marks : 1**

Which one of the following countries is the leading exporter of commercial services?

1. USA
2. India
3. Australia
4. Israel

**Options :**

68634070253. 1  
68634070254. 2  
68634070255. 3  
68634070256. 4

**Question Number : 64 Question Id : 68634017788 Question Type : MCQ Option Shuffling : No Is Question Mandatory : No Calculator : None Response Time : N.A Think Time : N.A Minimum Instruction Time : 0**

**Correct Marks : 4 Wrong Marks : 1**

निम्न में से कौन सा देश वाणिज्यिक सेवाओं का अग्रणी निर्यातक है?

1. संयुक्त राज्य अमेरिका
2. भारत
3. आस्ट्रेलिया
4. इजरायल

**Options :**

68634070253. 1  
68634070254. 2  
68634070255. 3  
68634070256. 4

**Question Number : 65 Question Id : 68634017789 Question Type : MCQ Option Shuffling : No Is Question Mandatory : No Calculator : None Response Time : N.A Think Time : N.A Minimum Instruction Time : 0**

**Correct Marks : 4 Wrong Marks : 1**

Gulf of Maracaibo is the leading oil producing area of \_\_\_\_\_.

1. Iraq
2. Venezuela
3. UAE
4. Oman

**Options :**

68634070257. 1  
68634070258. 2

68634070259. 3

68634070260. 4

**Question Number : 65 Question Id : 68634017789 Question Type : MCQ Option Shuffling : No Is Question Mandatory : No Calculator : None Response Time : N.A Think Time : N.A Minimum Instruction Time : 0 Correct Marks : 4 Wrong Marks : 1**

माराकाइबे खाड़ी \_\_\_\_\_ का एक प्रमुख तेल उत्पादक क्षेत्र है

1. इराक
2. वेनेजुएला
3. संयुक्त अरब अमीरात
4. ओमान

**Options :**

68634070257. 1

68634070258. 2

68634070259. 3

68634070260. 4

**Question Number : 66 Question Id : 68634017790 Question Type : MCQ Option Shuffling : No Is Question Mandatory : No Calculator : None Response Time : N.A Think Time : N.A Minimum Instruction Time : 0 Correct Marks : 4 Wrong Marks : 1**

Technopolis, the Silicon Forest is located near \_\_\_\_\_.

1. San Francisco
2. Los Angeles
3. Seattle
4. Chicago

**Options :**

68634070261. 1

68634070262. 2

68634070263. 3

68634070264. 4

**Question Number : 66 Question Id : 68634017790 Question Type : MCQ Option Shuffling : No Is Question Mandatory : No Calculator : None Response Time : N.A Think Time : N.A Minimum Instruction Time : 0 Correct Marks : 4 Wrong Marks : 1**

प्रौद्योगिकी ध्रुव (टैकनोपोलिस), सिलिकोन फ़ॉरेस्ट \_\_\_\_\_ के निकट स्थित है?

1. सेन फ्रांसिस्को
2. लास एंजेल्स
3. सियटल
4. शिकागो

**Options :**

68634070261. 1  
68634070262. 2  
68634070263. 3  
68634070264. 4

**Question Number : 67 Question Id : 68634017791 Question Type : MCQ Option Shuffling : No Is Question Mandatory : No Calculator : None Response Time : N.A Think Time : N.A Minimum Instruction Time : 0**

**Correct Marks : 4 Wrong Marks : 1**

Given below are two statements. One is labelled as **Assertion A** and the other is labelled as **Reason R**.

**Assertion A:** In shifting cultivation, one of the major problems is that cycle of field-rotation becomes shorter overtime.

**Reason R:** In different parcels of field-rotation cycle, chemical and organic manures are applied intensively to maintain soil fertility.

In the light of above statements, choose the correct answer from the options given below:

1. Both A and R are true and R is the correct explanation of A
2. Both A and R are true but R is NOT the correct explanation of A
3. A is true but R is false
4. A is false but R is true

**Options :**

68634070265. 1  
68634070266. 2  
68634070267. 3  
68634070268. 4

**Question Number : 67 Question Id : 68634017791 Question Type : MCQ Option Shuffling : No Is Question Mandatory : No Calculator : None Response Time : N.A Think Time : N.A Minimum Instruction Time : 0**

**Correct Marks : 4 Wrong Marks : 1**



नीचे दो कथन दिए गये हैं: एक अभिकथन (Assertion A) के रूप में लिखित है तो दूसरा उसके कारण (Reason R) के रूप में:

**अभिकथन A:** स्थानान्तरी कृषि में, एक प्रमुख समस्या यह है कि फिल्ड (खेत) चक्रण का चक्र समय के साथ छोटा होता जाता है।

**कारण R:** फिल्ड (खेत) चक्रण चक्र के विभिन्न टुकड़ों में मृदा उत्पादकता को बनाये रखने के लिए रासायनिक और जैविक खाद का अत्यधिक प्रयोग किया जाता है।

उपरोक्त कथनों के आलोक में, नीचे दिए गए विकल्पों में से सही उत्तर का चयन कीजिए।

1. A और R दोनों सत्य हैं और R, A की सही व्याख्या है
2. A और R दोनों सत्य हैं और R, A की सही व्याख्या नहीं है
3. A सत्य है, लेकिन R असत्य है
4. A असत्य है, लेकिन R सत्य है

**Options :**

- 68634070265. 1
- 68634070266. 2
- 68634070267. 3
- 68634070268. 4

**Question Number : 68 Question Id : 68634017792 Question Type : MCQ Option Shuffling : No Is Question Mandatory : No Calculator : None Response Time : N.A Think Time : N.A Minimum Instruction Time : 0**

**Correct Marks : 4 Wrong Marks : 1**

Arrange the following places from west to east on the Australian Trans-Continental Railway.

- A. Port Augusta
- B. Forrest
- C. Broken Hill
- D. Kalgoorlie

Choose the correct answer from the options given below:

1. D, B, A, C
2. B, D, C, A
3. B, D, A, C
4. B, C, D, A

**Options :**

- 68634070269. 1
- 68634070270. 2

68634070271. 3

68634070272. 4

**Question Number : 68 Question Id : 68634017792 Question Type : MCQ Option Shuffling : No Is Question Mandatory : No Calculator : None Response Time : N.A Think Time : N.A Minimum Instruction Time : 0 Correct Marks : 4 Wrong Marks : 1**

आस्ट्रेलियाई पारमहाद्वीपीय रेलमार्ग पर स्थित निम्न स्थानों को पश्चिम से पूर्व की ओर व्यवस्थित कीजिए।

- A. पोर्ट अगस्ता
- B. फोरेस्ट
- C. ब्रोकन हिल
- D. कलगुर्ली

नीचे दिए गए विकल्पों में से सही उत्तर का चयन कीजिए:

- 1. D, B, A, C
- 2. B, D, C, A
- 3. B, D, A, C
- 4. B, C, D, A

**Options :**

68634070269. 1

68634070270. 2

68634070271. 3

68634070272. 4

**Question Number : 69 Question Id : 68634017793 Question Type : MCQ Option Shuffling : No Is Question Mandatory : No Calculator : None Response Time : N.A Think Time : N.A Minimum Instruction Time : 0 Correct Marks : 4 Wrong Marks : 1**

Arrange the following land use zones of Von Thunen location theory in sequence from Central City towards periphery.

- A. Fuelwood and Timber Production
- B. Livestock Ranching
- C. Market Gardening
- D. Crop farming without fallow

Choose the correct answer from the options given below:

- 1. A, D, B, C
- 2. A, C, B, D
- 3. C, A, D, B
- 4. C, A, B, D

**Options :**

68634070273. 1

68634070274. 2  
68634070275. 3  
68634070276. 4

**Question Number : 69 Question Id : 68634017793 Question Type : MCQ Option Shuffling : No Is Question Mandatory : No Calculator : None Response Time : N.A Think Time : N.A Minimum Instruction Time : 0**

**Correct Marks : 4 Wrong Marks : 1**

वान थ्यूनेन के अवस्थिति सिद्धांत में दिए गए निम्न भूमि उपयोग खण्डों को केन्द्रीय शहर से परिधि की ओर के क्रम में व्यवस्थित कीजिये?

- A. ईंधन एवं इमारती लकड़ी उत्पादन
- B. रैंचों में पशुपालन
- C. बाजार फसल का उत्पादन (विपणन कृषि)
- D. परती भूमि रहित फसल कृषि

नीचे दिए गए विकल्पों में से सही उत्तर का चयन कीजिए:

- 1. A, D, B, C
- 2. A, C, B, D
- 3. C, A, D, B
- 4. C, A, B, D

**Options :**

68634070273. 1  
68634070274. 2  
68634070275. 3  
68634070276. 4

**Question Number : 70 Question Id : 68634017794 Question Type : MCQ Option Shuffling : No Is Question Mandatory : No Calculator : None Response Time : N.A Think Time : N.A Minimum Instruction Time : 0**

**Correct Marks : 4 Wrong Marks : 1**

Identify the statements which are NOT correct with reference to Weber's Industrial Location Theory:

- A. This theory was propounded by French geographer A. Weber in 1909.
- B. It assumed entrepreneurs as rational and economic men.
- C. In locational triangle industry is located at the point of least labour cost.
- D. Weber used the idea of critical isodapane in this theory.

Choose the correct answer from the options given below:

- 1. A and C only
- 2. B and D only
- 3. C and D only
- 4. A and B only

**Options :**

- 68634070277. 1
- 68634070278. 2
- 68634070279. 3
- 68634070280. 4

**Question Number : 70 Question Id : 68634017794 Question Type : MCQ Option Shuffling : No Is Question Mandatory : No Calculator : None Response Time : N.A Think Time : N.A Minimum Instruction Time : 0**

**Correct Marks : 4 Wrong Marks : 1**

वेबर के औद्योगिक अवस्थापना सिद्धांत के संदर्भ में निम्न कथनों में से कौन से कथन सही नहीं हैं?

- A. इस सिद्धांत का प्रतिपादन फ्रांसिसी भूगोलवता ए. वेबर के द्वारा 1909 में किया गया था ।
- B. यह कल्पना करती है कि उद्यमी एक तार्किक और आर्थिक मानव है ।
- C. अवस्थिति त्रिभुज में उद्योग न्यूनतम श्रम लागत बिन्दु पर स्थित होता है ।
- D. इस सिद्धांत में वेबर ने आलोचनात्मक आइसोडापेन के विचार का प्रयोग किया ।

नीचे दिए गए विकल्पों में से सही उत्तर का चयन कीजिए:

- 1. केवल A और C
- 2. केवल B और D
- 3. केवल C और D
- 4. केवल A और B

**Options :**

- 68634070277. 1
- 68634070278. 2
- 68634070279. 3
- 68634070280. 4

**Question Number : 71 Question Id : 68634017795 Question Type : MCQ Option Shuffling : No Is Question Mandatory : No Calculator : None Response Time : N.A Think Time : N.A Minimum Instruction Time : 0**

**Correct Marks : 4 Wrong Marks : 1**

Match List I with List II

LIST I (Agriculture System)		LIST II (Main Crop)	
A.	Intensive Subsistence Farming	I.	Rice
B.	Commercial Grain Farming	II.	Grape
C.	Plantation Agriculture	III.	Wheat
D.	Mediterranean Agriculture	IV.	Sugarcane

Choose the correct answer from the options given below:

1. A-I, B-IV, C-II, D-III
2. A-III, B-I, C-II, D-IV
3. A-III, B-I, C-IV, D-II
4. A-I, B-III, C-IV, D-II

**Options :**

68634070281. 1  
68634070282. 2  
68634070283. 3  
68634070284. 4

**Question Number : 71 Question Id : 68634017795 Question Type : MCQ Option Shuffling : No Is Question Mandatory : No Calculator : None Response Time : N.A Think Time : N.A Minimum Instruction Time : 0 Correct Marks : 4 Wrong Marks : 1**

सूची I का सूची II से मिलान कीजिए

सूची I (कृषि तंत्र)		सूची II (मुख्य फसल)	
A.	गहन निर्वाह कृषि	I.	चावल
B.	वाणिज्यिक अनाज कृषि	II.	अंगूर
C.	रोपण कृषि	III.	गेहूँ
D.	भूमध्यसागरीय कृषि	IV.	गन्ना

निम्नलिखित विकल्पों में से सही उत्तर का चयन कीजिए :

1. A-I, B-IV, C-II, D-III
2. A-III, B-I, C-II, D-IV
3. A-III, B-I, C-IV, D-II
4. A-I, B-III, C-IV, D-II

**Options :**

68634070281. 1  
68634070282. 2  
68634070283. 3  
68634070284. 4



**Question Number : 72 Question Id : 68634017796 Question Type : MCQ Option Shuffling : No Is Question Mandatory : No Calculator : None Response Time : N.A Think Time : N.A Minimum Instruction Time : 0 Correct Marks : 4 Wrong Marks : 1**

Which one of the following seismic zones is excluded from Seismic zone map of India published in 2002?

1. Zone-II
2. Zone-I
3. Zone-IV
4. Zone-V

**Options :**

68634070285. 1  
68634070286. 2  
68634070287. 3  
68634070288. 4

**Question Number : 72 Question Id : 68634017796 Question Type : MCQ Option Shuffling : No Is Question Mandatory : No Calculator : None Response Time : N.A Think Time : N.A Minimum Instruction Time : 0 Correct Marks : 4 Wrong Marks : 1**

निम्न में से किस एक भूकंपीय क्षेत्र को 2002 में प्रकाशित भारत के भूकंपीय क्षेत्र मानचित्र में शामिल नहीं किया गया था?

1. जोन-II
2. जोन-I
3. जोन-IV
4. जोन-V

**Options :**

68634070285. 1  
68634070286. 2  
68634070287. 3  
68634070288. 4

**Question Number : 73 Question Id : 68634017797 Question Type : MCQ Option Shuffling : No Is Question Mandatory : No Calculator : None Response Time : N.A Think Time : N.A Minimum Instruction Time : 0 Correct Marks : 4 Wrong Marks : 1**



Who among the following is the chairperson of National Disaster Management Authority (NDMA)?

1. Home Minister, Govt. of India
2. President of India
3. Prime Minister
4. Defence Minister

**Options :**

- 68634070289. 1
- 68634070290. 2
- 68634070291. 3
- 68634070292. 4

**Question Number : 73 Question Id : 68634017797 Question Type : MCQ Option Shuffling : No Is Question Mandatory : No Calculator : None Response Time : N.A Think Time : N.A Minimum Instruction Time : 0**

**Correct Marks : 4 Wrong Marks : 1**

निम्न में से कौन राष्ट्रीय आपदा प्रबंधन अधिकरण (NDMA) का अध्यक्ष होता है?

1. गृह मंत्री, भारत सरकार
2. भारत का राष्ट्रपति
3. प्रधान मंत्री
4. रक्षा मंत्री

**Options :**

- 68634070289. 1
- 68634070290. 2
- 68634070291. 3
- 68634070292. 4

**Question Number : 74 Question Id : 68634017798 Question Type : MCQ Option Shuffling : No Is Question Mandatory : No Calculator : None Response Time : N.A Think Time : N.A Minimum Instruction Time : 0**

**Correct Marks : 4 Wrong Marks : 1**

Which of the following statement about Tropical Cyclone is NOT correct?

1. Latent heat released by warm moist air supply energy to tropical cyclones.
2. In India, the force of tropical cyclone decreases with increase in distance from Bay of Bengal and Arabian Sea towards interior parts.
3. The abnormal rise of sea water due to tropical cyclone is called 'Storm Surge'.
4. Most intense rainfall occurs in the eye of the tropical cyclone.

**Options :**

68634070293. 1  
68634070294. 2  
68634070295. 3  
68634070296. 4

**Question Number : 74 Question Id : 68634017798 Question Type : MCQ Option Shuffling : No Is Question Mandatory : No Calculator : None Response Time : N.A Think Time : N.A Minimum Instruction Time : 0 Correct Marks : 4 Wrong Marks : 1**

उष्णकटिबंधीय चक्रवात के बारे में निम्न में से कौन सा कथन सही नहीं है?

1. गर्म आर्द्र हवा द्वारा छोड़ी गई गुप्त ऊष्मा उष्णकटिबंधीय चक्रवात को ऊर्जा की आपूर्ति करती है।
2. भारत में बंगाल की खाड़ी और अरब सागर से आंतरिक भागों की ओर दूरी बढ़ने के साथ उष्णकटिबंधीय चक्रवात का बल कम होता जाता है।
3. उष्णकटिबंधीय चक्रवात के कारण सागरीय जल के असामान्य उभार को ' तूफानी आवेग ' कहा जाता है।
4. सर्वाधिक गहन वर्षा उष्णकटिबंधीय चक्रवात के चक्षु में होती है।

**Options :**

68634070293. 1  
68634070294. 2  
68634070295. 3  
68634070296. 4

**Question Number : 75 Question Id : 68634017799 Question Type : MCQ Option Shuffling : No Is Question Mandatory : No Calculator : None Response Time : N.A Think Time : N.A Minimum Instruction Time : 0 Correct Marks : 4 Wrong Marks : 1**

Approximately, how much percent land area of India is vulnerable to landslide hazard?

1. 15 percent
2. 25 percent
3. 37 percent
4. 56 percent

**Options :**

68634070297. 1  
68634070298. 2  
68634070299. 3  
68634070300. 4

**Question Number : 75 Question Id : 68634017799 Question Type : MCQ Option Shuffling : No Is Question Mandatory : No Calculator : None Response Time : N.A Think Time : N.A Minimum Instruction Time : 0 Correct Marks : 4 Wrong Marks : 1**

भारत का लगभग कितना प्रतिशत क्षेत्र भूस्खलन जोखिम सुभेद्य है?

1. 15 प्रतिशत
2. 25 प्रतिशत
3. 37 प्रतिशत
4. 56 प्रतिशत

**Options :**

68634070297. 1  
68634070298. 2  
68634070299. 3  
68634070300. 4

**Question Number : 76 Question Id : 68634017800 Question Type : MCQ Option Shuffling : No Is Question Mandatory : No Calculator : None Response Time : N.A Think Time : N.A Minimum Instruction Time : 0**

**Correct Marks : 4 Wrong Marks : 1**

Given below are two statements. One is labelled as **Assertion A** and the other is labelled as **Reason R**.

**Assertion A:**The devastations caused by Tsunami waves is more near the coast than deep sea.

**Reason R:** As Tsunami wave enters shallow water, its wavelength gets reduced but the period remains unchanged which increases the height of waves.

In the light of above statements, choose the *correct answer* from the options given below:

1. Both A and R are true and R is the correct explanation of A
2. Both A and R are true but R is NOT the correct explanation of A
3. A is true but R is false
4. A is false but R is true

**Options :**

68634070301. 1  
68634070302. 2  
68634070303. 3  
68634070304. 4

**Question Number : 76 Question Id : 68634017800 Question Type : MCQ Option Shuffling : No Is Question Mandatory : No Calculator : None Response Time : N.A Think Time : N.A Minimum Instruction Time : 0**

**Correct Marks : 4 Wrong Marks : 1**

नीचे दो कथन दिए गये हैं: एक अभिकथन (Assertion A) के रूप में लिखित है तो दूसरा उसके कारण (Reason R) के रूप में:

**अभिकथन A:** सुनामी लहरों के द्वारा होने वाले विनाश की मात्रा गहरे सागर की अपेक्षा तट के निकट अधिक होती है।

**कारण R:** जब सुनामी लहरें उथले पानी में प्रवेश करती हैं, इसकी तरंग की लम्बाई कम हो जाती है लेकिन समय अपरिवर्तित रहता है जिस से लहरों की ऊंचाई में वृद्धि होती है।

उपरोक्त कथनों के आलोक में, नीचे दिए गए विकल्पों में से सही उत्तर का चयन कीजिए।

1. A और R दोनों सत्य हैं और R, A की सही व्याख्या है
2. A और R दोनों सत्य हैं और R, A की सही व्याख्या नहीं है
3. A सत्य है, लेकिन R असत्य है
4. A असत्य है, लेकिन R सत्य है

**Options :**

68634070301. 1
68634070302. 2
68634070303. 3
68634070304. 4

**Question Number : 77 Question Id : 68634017801 Question Type : MCQ Option Shuffling : No Is Question Mandatory : No Calculator : None Response Time : N.A Think Time : N.A Minimum Instruction Time : 0**

**Correct Marks : 4 Wrong Marks : 1**

Arrange the following part of states in descending order according to their vulnerability to severity of drought.

- A. Parts of Eastern Rajasthan
- B. Northern Parts of Rajasthan
- C. Northern Haryana
- D. Parts of Rajasthan west of Aravali Hills

Choose the correct answer from the options given below:

1. A, B, D, C
2. C, B, A, D
3. D, A, B, C
4. D, C, B, A

**Options :**

68634070305. 1
68634070306. 2
68634070307. 3



68634070308. 4

**Question Number : 77 Question Id : 68634017801 Question Type : MCQ Option Shuffling : No Is Question Mandatory : No Calculator : None Response Time : N.A Think Time : N.A Minimum Instruction Time : 0**

**Correct Marks : 4 Wrong Marks : 1**

सूखे की भीषणता के प्रति सर्वेदनशीलता के आधार पर निम्न राज्यों के हिस्सों / भागों को अवरोही क्रम में व्यवस्थित कीजिए।

- A. पूर्वी राजस्थान के हिस्से
- B. उत्तरी राजस्थान के हिस्से
- C. उत्तरी हरियाणा
- D. राजस्थान में अरावली पहाड़ी से पश्चिम वाले हिस्से

नीचे दिए गए विकल्पों में से सही उत्तर का चयन कीजिए:

- 1. A, B, D, C
- 2. C, B, A, D
- 3. D, A, B, C
- 4. D, C, B, A

**Options :**

- 68634070305. 1
- 68634070306. 2
- 68634070307. 3
- 68634070308. 4

**Question Number : 78 Question Id : 68634017802 Question Type : MCQ Option Shuffling : No Is Question Mandatory : No Calculator : None Response Time : N.A Think Time : N.A Minimum Instruction Time : 0**

**Correct Marks : 4 Wrong Marks : 1**

Given below are two statements:

**Statement I:** The distinction between hazard and disaster is made based on magnitude of destruction and damage caused by it.

**Statement II:** The human made disasters have increased both in their numbers and magnitudes over the years.

In the light of the above statements, choose the most appropriate answer from the options given below:

- 1. Both Statement I and Statement II are correct
- 2. Both Statement I and Statement II are incorrect
- 3. Statement I is correct but Statement II is incorrect
- 4. Statement I is incorrect but Statement II is correct

**Options :**

- 68634070309. 1
- 68634070310. 2

68634070311. 3

68634070312. 4

**Question Number : 78 Question Id : 68634017802 Question Type : MCQ Option Shuffling : No Is Question Mandatory : No Calculator : None Response Time : N.A Think Time : N.A Minimum Instruction Time : 0**

**Correct Marks : 4 Wrong Marks : 1**

नीचे दो कथन दिए गये हैं: एक अभिकथन (Assertion A) के रूप में लिखित है तो दूसरा उसके कारण (Reason R) के रूप में:

अभिकथन A: जोखिम और आपदा के मध्य अंतर विनाश के परिणाम और इनके द्वारा होने वाली क्षति के आधार पर किया जाता है।

कारण R: पिछले कुछ वर्षों में मानव निर्मित आपदाओं की संख्या और परिणाम दोनों में वृद्धि हुई है।

उपरोक्त कथनों के आलोक में, नीचे दिए गए विकल्पों में से सही उत्तर का चयन कीजिए।

1. कथन I लेकिन II दोनों सही है
2. कथन I लेकिन II दोनों गलत है
3. कथन I सही है लेकिन II गलत है
4. कथन I गलत है लेकिन कथन II सही है

**Options :**

68634070309. 1

68634070310. 2

68634070311. 3

68634070312. 4

**Question Number : 79 Question Id : 68634017803 Question Type : MCQ Option Shuffling : No Is Question Mandatory : No Calculator : None Response Time : N.A Think Time : N.A Minimum Instruction Time : 0**

**Correct Marks : 4 Wrong Marks : 1**

Match List I with List II

LIST I: Disaster		LIST II: Type	
A.	Drought	I.	Aquatic
B.	Subsidence	II.	Atmospheric
C.	Tsunami	III.	Biological
D.	Bird Flu	IV.	Terrestrial

Choose the correct answer from the options given below:

1. A-I, B-II, C-III, D-IV
2. A-IV, B-II, C-I, D-III
3. A-II, B-IV, C-I, D-III
4. A-IV, B-III, C-II, D-I

**Options :**



68634070313. 1  
68634070314. 2  
68634070315. 3  
68634070316. 4

**Question Number : 79 Question Id : 68634017803 Question Type : MCQ Option Shuffling : No Is Question Mandatory :  
No Calculator : None Response Time : N.A Think Time : N.A Minimum Instruction Time : 0  
Correct Marks : 4 Wrong Marks : 1**

सूची I का सूची II से मिलान कीजिए

सूची I (आपदा)		सूची II (प्रकार)	
A.	सूखा	I.	जलीय
B.	धसाव	II.	वायुमण्डलीय
C.	सुनामी	III.	जैविक
D.	बर्ड फ्लू	IV.	भौमिक

निम्नलिखित विकल्पों में से सही उत्तर का चयन कीजिए :

1. A-I, B-II, C-III, D-IV
2. A-IV, B-II, C-I, D-III
3. A-II, B-IV, C-I, D-III
4. A-IV, B-III, C-II, D-I

**Options :**

68634070313. 1  
68634070314. 2  
68634070315. 3  
68634070316. 4

**Question Number : 80 Question Id : 68634017804 Question Type : MCQ Option Shuffling : No Is Question Mandatory :  
No Calculator : None Response Time : N.A Think Time : N.A Minimum Instruction Time : 0  
Correct Marks : 4 Wrong Marks : 1**

Which of the following statements are correct?

- A. Unlike other natural disasters, the causes of floods are not well established.
- B. In India, flood management is based exclusively on structural measures
- C. Unlike other natural disasters, human beings play an important role in the genesis as well as spread of floods.
- D. Floods in China, India and Bangladesh are frequent and disasterous.

Choose the correct answer from the options given below:

- 1. A and C only
- 2. B and D only
- 3. C and D only
- 4. A and D only

**Options :**

- 68634070317. 1
- 68634070318. 2
- 68634070319. 3
- 68634070320. 4

**Question Number : 80 Question Id : 68634017804 Question Type : MCQ Option Shuffling : No Is Question Mandatory : No Calculator : None Response Time : N.A Think Time : N.A Minimum Instruction Time : 0 Correct Marks : 4 Wrong Marks : 1**

निम्न में से कौन से कथन सही हैं?

- A. अन्य प्राकृतिक आपदाओं से भिन्न, बाढ़ के कारण सही से परिभाषित नहीं हैं।
- B. भारत में, बाढ़ प्रबंधन पूरी तरह से संरचनात्मक उपायों पर आधारित है।
- C. अन्य प्राकृतिक आपदाओं से भिन्न, बाढ़ों की उत्पत्ति और प्रसरण में मानव एक महत्वपूर्ण भूमिका अदा करता है।
- D. चीन, भारत और बांग्लादेश में बाढ़ बार बार आती हैं और नष्टकारी हैं।

नीचे दिए गए विकल्पों में से सही उत्तर का चयन कीजिए:

- 1. केवल A और C
- 2. केवल B और D
- 3. केवल C और D
- 4. केवल A और D

**Options :**

- 68634070317. 1
- 68634070318. 2
- 68634070319. 3
- 68634070320. 4

**Question Number : 81 Question Id : 68634017805 Question Type : MCQ Option Shuffling : No Is Question Mandatory : No Calculator : None Response Time : N.A Think Time : N.A Minimum Instruction Time : 0 Correct Marks : 4 Wrong Marks : 1**

In 2021, the two states with most domestic tourists visiting were\_\_\_\_\_.

1. Gujarat and Madhya Pradesh
2. Odisha and Kerala
3. Punjab and Himachal Pradesh
4. Tamil Nadu and Uttar Pradesh

**Options :**

68634070321. 1  
68634070322. 2  
68634070323. 3  
68634070324. 4

**Question Number : 81 Question Id : 68634017805 Question Type : MCQ Option Shuffling : No Is Question Mandatory : No Calculator : None Response Time : N.A Think Time : N.A Minimum Instruction Time : 0 Correct Marks : 4 Wrong Marks : 1**

2021 में, सर्वाधिक घरेलू पर्यटक यात्राओं के दो राज्य थे \_\_\_\_\_.

1. गुजरात तथा मध्य प्रदेश
2. ओड़िसा तथा केरल
3. पंजाब तथा हिमाचल प्रदेश
4. तमिलनाडु तथा उत्तर प्रदेश

**Options :**

68634070321. 1  
68634070322. 2  
68634070323. 3  
68634070324. 4

**Question Number : 82 Question Id : 68634017806 Question Type : MCQ Option Shuffling : No Is Question Mandatory : No Calculator : None Response Time : N.A Think Time : N.A Minimum Instruction Time : 0 Correct Marks : 4 Wrong Marks : 1**

India's ranking in the global Travel and Tourism Development Index (TTDI) is \_\_\_\_\_ in 2021.

1. 5th
2. 54th
3. 158th
4. 96th

**Options :**

- 68634070325. 1
- 68634070326. 2
- 68634070327. 3
- 68634070328. 4

**Question Number : 82 Question Id : 68634017806 Question Type : MCQ Option Shuffling : No Is Question Mandatory : No Calculator : None Response Time : N.A Think Time : N.A Minimum Instruction Time : 0**

**Correct Marks : 4 Wrong Marks : 1**

वैश्विक यात्रा तथा पर्यटक विकास (TTDI) सूचकांक में वर्ष 2021में भारत का क्रम स्थान \_\_\_\_\_ है।

1. 5वां
2. 54वां
3. 158वां
4. 96वां

**Options :**

- 68634070325. 1
- 68634070326. 2
- 68634070327. 3
- 68634070328. 4

**Question Number : 83 Question Id : 68634017807 Question Type : MCQ Option Shuffling : No Is Question Mandatory : No Calculator : None Response Time : N.A Think Time : N.A Minimum Instruction Time : 0**

**Correct Marks : 4 Wrong Marks : 1**

The leading purpose of travel for Indian Nationals' Departures (INDs) from India in 2021 was \_\_\_\_\_.

1. Indian Diaspora
2. Education
3. Business and Professional
4. Pilgrimage

**Options :**

- 68634070329. 1

68634070330. 2  
68634070331. 3  
68634070332. 4

**Question Number : 83 Question Id : 68634017807 Question Type : MCQ Option Shuffling : No Is Question Mandatory :  
No Calculator : None Response Time : N.A Think Time : N.A Minimum Instruction Time : 0  
Correct Marks : 4 Wrong Marks : 1**

2021 में, भारत से भारतीय नागरिकों के प्रस्थान (INDs) का अग्रणी कारण था \_\_\_\_\_.

1. भारतीय डायसपोरा
2. शिक्षा
3. व्यवसाय और व्यावसायिक
4. धार्मिक यात्रा

**Options :**

68634070329. 1  
68634070330. 2  
68634070331. 3  
68634070332. 4

**Question Number : 84 Question Id : 68634017808 Question Type : MCQ Option Shuffling : No Is Question Mandatory :  
No Calculator : None Response Time : N.A Think Time : N.A Minimum Instruction Time : 0  
Correct Marks : 4 Wrong Marks : 1**

In India, the most popular (Rank 1 as per Ticketed) centrally Protected ticketed monuments for foreign visitors during financial year 2021-22 was \_\_\_\_\_.

1. Group of Monuments, Mamallapuram
2. Taj Mahal
3. Agra Fort
4. Qutab Minar

**Options :**

68634070333. 1  
68634070334. 2  
68634070335. 3  
68634070336. 4

**Question Number : 84 Question Id : 68634017808 Question Type : MCQ Option Shuffling : No Is Question Mandatory :  
No Calculator : None Response Time : N.A Think Time : N.A Minimum Instruction Time : 0  
Correct Marks : 4 Wrong Marks : 1**

भारत में वित्त वर्ष 2021-22 में विदेशी आंगुतकों के लिए केंद्रीय स्तर पर संरक्षित टिकट-वाला सबसे लोकप्रिय (टिकिट कटने के आधार पर प्रथम क्रम ) स्मारक था \_\_\_\_\_.

1. मामलापुरम, स्मारक समूह
2. ताज महल
3. आगरा की किला
4. कुतुब मीनार

**Options :**

68634070333. 1  
68634070334. 2  
68634070335. 3  
68634070336. 4

**Question Number : 85 Question Id : 68634017809 Question Type : MCQ Option Shuffling : No Is Question Mandatory : No Calculator : None Response Time : N.A Think Time : N.A Minimum Instruction Time : 0 Correct Marks : 4 Wrong Marks : 1**

MICE is an acronym for \_\_\_\_\_.

1. Meetings, Incentives, Conventions and Exhibitions
2. Meetings, Information, Camp and Entertainment
3. Mobile Information, Communication and Enterprise
4. Multi-Investment Consortium of Energy

**Options :**

68634070337. 1  
68634070338. 2  
68634070339. 3  
68634070340. 4

**Question Number : 85 Question Id : 68634017809 Question Type : MCQ Option Shuffling : No Is Question Mandatory : No Calculator : None Response Time : N.A Think Time : N.A Minimum Instruction Time : 0 Correct Marks : 4 Wrong Marks : 1**

MICE का परीवर्णी शब्द है \_\_\_\_\_.

1. बैठकें, प्रोत्साहन, सभा और प्रदर्शनियाँ
2. बैठकों, सूचना, कैम्प और मनोरंजन
3. चल सूचना सचरण उद्यम
4. ऊर्जा का बहु निवेश संघ



**Options :**

- 68634070337. 1
- 68634070338. 2
- 68634070339. 3
- 68634070340. 4

**Question Number : 86 Question Id : 68634017810 Question Type : MCQ Option Shuffling : No Is Question Mandatory : No Calculator : None Response Time : N.A Think Time : N.A Minimum Instruction Time : 0 Correct Marks : 4 Wrong Marks : 1**

Given below are two statements. One is labelled as Assertion A and the other is labelled as Reason R.

**Assertion A:** Ministry of Tourism is developing Niche products in tourism sector to promote India as a 365 days' destination.

**Reason R:** Indian tourism is characterised by 'seasonality'.

In the light of above statements, choose the correct answer from the options given below:

1. Both A and R are correct and R is the correct explanation of A
2. Both A and R are correct but R is NOT the correct explanation of A
3. A is correct but R is not correct
4. A is not correct but R is correct

**Options :**

- 68634070341. 1
- 68634070342. 2
- 68634070343. 3
- 68634070344. 4

**Question Number : 86 Question Id : 68634017810 Question Type : MCQ Option Shuffling : No Is Question Mandatory : No Calculator : None Response Time : N.A Think Time : N.A Minimum Instruction Time : 0 Correct Marks : 4 Wrong Marks : 1**

नीचे दो कथन दिए गये हैं: एक अभिकथन (Assertion A) के रूप में लिखित है तो दूसरा उसके कारण (Reason R) के रूप में:

**अभिकथन A:** भारत को 365 दिन के गंतव्य के रूप में संवर्धन करने हेतु पर्यटन मंत्रालय पर्यटन क्षेत्र में आला(Niche) उत्पादों का विकास कर रहा है।

**कारण R:** भारतीय पर्यटन का लक्षण "मौसमीयता" है।

उपरोक्त कथनों के आलोक में, नीचे दिए गए विकल्पों में से सही उत्तर का चयन कीजिए।

1. A और R दोनों सत्य हैं और R, A की सही व्याख्या है
2. A और R दोनों सत्य हैं और R, A की सही व्याख्या नहीं है
3. A सत्य है, लेकिन R असत्य है
4. A असत्य है, लेकिन R सत्य है

**Options :**

68634070341. 1
68634070342. 2
68634070343. 3
68634070344. 4

**Question Number : 87 Question Id : 68634017811 Question Type : MCQ Option Shuffling : No Is Question Mandatory : No Calculator : None Response Time : N.A Think Time : N.A Minimum Instruction Time : 0**

**Correct Marks : 4 Wrong Marks : 1**

Arrange the following countries in descending order in terms of number of Foreign Tourist Arrivals (FTAs) in India (2021).

- A. Bangladesh
- B. United Kingdom
- C. USA
- D. Canada

Choose the correct answer from the options given below:

1. B, D, C, A
2. A, C, B, D
3. C, A, B, D
4. B, D, A, C

**Options :**

68634070345. 1
68634070346. 2
68634070347. 3

68634070348. 4

**Question Number : 87 Question Id : 68634017811 Question Type : MCQ Option Shuffling : No Is Question Mandatory : No Calculator : None Response Time : N.A Think Time : N.A Minimum Instruction Time : 0 Correct Marks : 4 Wrong Marks : 1**

भारत में (2021) विदेशी पर्यटक आगमन (FTA) के आधार पर निम्नलिखित देशों को अवरोही क्रम में व्यवस्थित करें।

- A. बांग्लादेश
- B. यूनाइटेड किंगडम
- C. संयुक्त राज्य अमेरिका
- D. कनाडा

नीचे दिए गए विकल्पों में से सही उत्तर का चयन कीजिए:

- 1. B, D, C, A
- 2. A, C, B, D
- 3. C, A, B, D
- 4. B, D, A, C

**Options :**

- 68634070345. 1
- 68634070346. 2
- 68634070347. 3
- 68634070348. 4

**Question Number : 88 Question Id : 68634017812 Question Type : MCQ Option Shuffling : No Is Question Mandatory : No Calculator : None Response Time : N.A Think Time : N.A Minimum Instruction Time : 0 Correct Marks : 4 Wrong Marks : 1**

Read the following statements about tourism in India carefully and identify the correct statements:

- A. India Tourism Development Corporation (ITDC) is a Public Sector Undertaking.
- B. Swadesh Darshan Scheme was started in 2017-18.
- C. Incredible India 2.0 campaign was started in 2017.
- D. 'Atithidevo Bhava' campaign was launched to enhance domestic tourism in India.

Choose the correct answer from the options given below.

- 1. A and B only
- 2. A and C only
- 3. B and D only
- 4. A and D only

**Options :**

- 68634070349. 1
- 68634070350. 2

68634070351. 3

68634070352. 4

**Question Number : 88 Question Id : 68634017812 Question Type : MCQ Option Shuffling : No Is Question Mandatory : No Calculator : None Response Time : N.A Think Time : N.A Minimum Instruction Time : 0 Correct Marks : 4 Wrong Marks : 1**

भारत में पर्यटन से संबंधित निम्न कथनों को ध्यान से पढ़ें और सही कथनों की पहचान करें।

- A. भारतीय पर्यटन विकास निगम (ITDC) एक सावर्जनिक क्षेत्र का उपक्रम है।
- B. स्वदेश दर्शन योजना 2017-18 में प्रारम्भ की गई थी।
- C. अतुल्य भारत 2.0 अभियान 2017 में प्रारम्भ किया गया था।
- D. 'अतिथि देवो भव' अभियान भारत में घरेलू पर्यटन को बढ़ाने के लिए प्रारम्भ किया गया था।

नीचे दिए गए विकल्पों में से सही उत्तर का चयन कीजिए:

- 1. केवल A और B
- 2. केवल A और C
- 3. केवल B और D
- 4. केवल A और D

**Options :**

- 68634070349. 1
- 68634070350. 2
- 68634070351. 3
- 68634070352. 4

**Question Number : 89 Question Id : 68634017813 Question Type : MCQ Option Shuffling : No Is Question Mandatory : No Calculator : None Response Time : N.A Think Time : N.A Minimum Instruction Time : 0 Correct Marks : 4 Wrong Marks : 1**

Match List I with List II

LIST I (Tourist Place)		LIST II (State)	
A.	Kumbhalgarh	I.	West Bengal
B.	Bhimbetka	II.	Jharkhand
C.	Deoghar	III.	Rajasthan
D.	Belur	IV.	Madhya Pradesh

Choose the correct answer from the options given below:

- 1. A-II, B-IV, C-III, D-I
- 2. A-IV, B-III, C-I, D-II
- 3. A-IV, B-II, C-I, D-III
- 4. A-III, B-IV, C-II, D-I

**Options :**

68634070353. 1  
68634070354. 2  
68634070355. 3  
68634070356. 4

**Question Number : 89 Question Id : 68634017813 Question Type : MCQ Option Shuffling : No Is Question Mandatory : No Calculator : None Response Time : N.A Think Time : N.A Minimum Instruction Time : 0 Correct Marks : 4 Wrong Marks : 1**

सूची I का सूची II से मिलान कीजिए

सूची I (पर्यटन स्थल)		सूची II (राज्य)	
A.	कुम्भलगढ़	I.	पश्चिमी बंगाल
B.	भीमबेटका	II.	झारखण्ड
C.	देवघर	III.	राजस्थान
D.	बेतूर	IV.	मध्य प्रदेश

निम्नलिखित विकल्पों में से सही उत्तर का चयन कीजिए :

1. A-II, B-IV, C-III, D-I
2. A-IV, B-III, C-I, D-II
3. A-IV, B-II, C-I, D-III
4. A-III, B-IV, C-II, D-I

**Options :**

68634070353. 1  
68634070354. 2  
68634070355. 3  
68634070356. 4

**Question Number : 90 Question Id : 68634017814 Question Type : MCQ Option Shuffling : No Is Question Mandatory : No Calculator : None Response Time : N.A Think Time : N.A Minimum Instruction Time : 0 Correct Marks : 4 Wrong Marks : 1**

Which one of the following is NOT a guiding principle of National Environment Policy 2006 of India?

1. The Right to Development
2. Economic growth is at the centre of Sustainable Development.
3. The Precautionary Approach
4. Economic Efficiency (including Polluter Pays)

**Options :**

68634070357. 1  
68634070358. 2  
68634070359. 3



68634070360. 4

**Question Number : 90 Question Id : 68634017814 Question Type : MCQ Option Shuffling : No Is Question Mandatory : No Calculator : None Response Time : N.A Think Time : N.A Minimum Instruction Time : 0 Correct Marks : 4 Wrong Marks : 1**

निम्नलिखित में से कौन सा भारत की राष्ट्रीय पर्यावरण नीति 2006 का मार्गदर्शक सिद्धांत नहीं है?

1. विकास का अधिकार
2. आर्थिक वृद्धि सतत विकास के केंद्र पर है।
3. एहतियाती उपागम
4. आर्थिक सक्षमता (प्रदूषणकर्ता द्वारा भुगतान सहित)

**Options :**

68634070357. 1  
68634070358. 2  
68634070359. 3  
68634070360. 4

**Question Number : 91 Question Id : 68634017815 Question Type : MCQ Option Shuffling : No Is Question Mandatory : No Calculator : None Response Time : N.A Think Time : N.A Minimum Instruction Time : 0 Correct Marks : 4 Wrong Marks : 1**

India's updated Nationally Determined Contribution (NDC) commitment to reduce Emissions Intensity of its GDP by \_\_\_\_\_ percent by 2030.

1. 45
2. 50
3. 35
4. 30

**Options :**

68634070361. 1  
68634070362. 2  
68634070363. 3  
68634070364. 4

**Question Number : 91 Question Id : 68634017815 Question Type : MCQ Option Shuffling : No Is Question Mandatory : No Calculator : None Response Time : N.A Think Time : N.A Minimum Instruction Time : 0 Correct Marks : 4 Wrong Marks : 1**



भारत का अद्यतन राष्ट्रीय स्तर पर निर्धारित योगदान (NDC) का वायदा 2030 जी डी पी की उत्सर्जन गहनता को \_\_\_\_\_ प्रतिशत कम करना है।

1. 45

2. 50

3. 35

4. 30

**Options :**

68634070361. 1

68634070362. 2

68634070363. 3

68634070364. 4

**Question Number : 92 Question Id : 68634017816 Question Type : MCQ Option Shuffling : No Is Question Mandatory : No Calculator : None Response Time : N.A Think Time : N.A Minimum Instruction Time : 0**

**Correct Marks : 4 Wrong Marks : 1**

In which of the following report sustainable development was defined by World Commission on Environment and Development in 1987?

1. The Population Bomb

2. The Limits to Growth

3. Our Common Future

4. The Wildlife (Protection) Act

**Options :**

68634070365. 1

68634070366. 2

68634070367. 3

68634070368. 4

**Question Number : 92 Question Id : 68634017816 Question Type : MCQ Option Shuffling : No Is Question Mandatory : No Calculator : None Response Time : N.A Think Time : N.A Minimum Instruction Time : 0**

**Correct Marks : 4 Wrong Marks : 1**

निम्नलिखित में से किस रिपोर्ट में विश्व पर्यावरण और विकास आयोग द्वारा 1987 में सतत पोषणीय विकास को परिभाषित किया था?

1. द पापुलेशन बम
2. द लिमिट्स टू ग्रोथ
3. अवर कॉमन फ्यूचर
4. वन्यजीव (सुरक्षा) अधिनियम

**Options :**

68634070365. 1  
68634070366. 2  
68634070367. 3  
68634070368. 4

**Question Number : 93 Question Id : 68634017817 Question Type : MCQ Option Shuffling : No Is Question Mandatory : No Calculator : None Response Time : N.A Think Time : N.A Minimum Instruction Time : 0 Correct Marks : 4 Wrong Marks : 1**

The Clean Development Mechanism (CDM) is one of the three "flexibility mechanisms" introduced in the \_\_\_\_\_.

1. Montreal Protocol
2. Rio+5
3. Kyoto Protocol
4. Basel Convention

**Options :**

68634070369. 1  
68634070370. 2  
68634070371. 3  
68634070372. 4

**Question Number : 93 Question Id : 68634017817 Question Type : MCQ Option Shuffling : No Is Question Mandatory : No Calculator : None Response Time : N.A Think Time : N.A Minimum Instruction Time : 0 Correct Marks : 4 Wrong Marks : 1**

तीन 'लचीलापन प्रक्रियाओं' में से एक स्वच्छ विकास प्रक्रिया (CDM) को \_\_\_\_\_ में आरम्भ किया गया था।

1. मॉन्ट्रियल प्रोटोकॉल
2. रियो+5
3. क्योटो प्रोटोकॉल
4. बेसल कन्वेंशन

**Options :**

- 68634070369. 1
- 68634070370. 2
- 68634070371. 3
- 68634070372. 4

**Question Number : 94 Question Id : 68634017818 Question Type : MCQ Option Shuffling : No Is Question Mandatory : No Calculator : None Response Time : N.A Think Time : N.A Minimum Instruction Time : 0 Correct Marks : 4 Wrong Marks : 1**

According to WMO's Global Annual to Decadal Climate Update Report 2023, the global temperatures are likely to surge to record levels in the next five years due to \_\_\_\_\_.

1. Greenhouse gases and Ozone depletion
2. La Nina and Ukraine War
3. Greenhouse gases and El Nino
4. Increased intensity of solar winds

**Options :**

- 68634070373. 1
- 68634070374. 2
- 68634070375. 3
- 68634070376. 4

**Question Number : 94 Question Id : 68634017818 Question Type : MCQ Option Shuffling : No Is Question Mandatory : No Calculator : None Response Time : N.A Think Time : N.A Minimum Instruction Time : 0 Correct Marks : 4 Wrong Marks : 1**

विश्व मौसम संगठन (WMO's) की ग्लोबल वार्षिक से दशकीय जलवायु अद्यतित रिपोर्ट 2023 के अनुसार अगले पांच वर्षों में ग्लोबल तापमान रिकॉर्ड स्तर पर अचानक बढ़ने का कारण है :

1. ग्रीन हाउस गैसों और ओजोन क्षरण
2. ला नीना तथा युक्रेन युद्ध
3. ग्रीन हाउस गैसों तथा एल नीनो
4. सौर पवनों की गहनता में बढ़ावा

**Options :**

- 68634070373. 1
- 68634070374. 2
- 68634070375. 3
- 68634070376. 4

**Question Number : 95 Question Id : 68634017819 Question Type : MCQ Option Shuffling : No Is Question Mandatory : No Calculator : None Response Time : N.A Think Time : N.A Minimum Instruction Time : 0 Correct Marks : 4 Wrong Marks : 1**

Given below are two statements. One is labelled as **Assertion A** and the other is labelled as **Reason R**.

**Assertion A:** IPCC Climate Change 2023: Synthesis report mentioned 2.1°C global warming above pre-industrial levels as on today.

**Reason R:** More than a century of burning fossil fuels as well as unequal and unsustainable energy and land use have led to global warming.

In the light of above statements, choose the correct answer from the options given below:

1. Both A and R are true and R is the correct explanation of A
2. Both A and R are true but R is NOT the correct explanation of A
3. A is true but R is false
4. A is false but R is true

**Options :**

68634070377. 1  
68634070378. 2  
68634070379. 3  
68634070380. 4

**Question Number : 95 Question Id : 68634017819 Question Type : MCQ Option Shuffling : No Is Question Mandatory : No Calculator : None Response Time : N.A Think Time : N.A Minimum Instruction Time : 0**

**Correct Marks : 4 Wrong Marks : 1**

नीचे दो कथन दिए गये हैं: एक अभिकथन (Assertion A) के रूप में लिखित है तो दूसरा उसके कारण (Reason R) के रूप में:

**अभिकथन A:** आई. पी. सी. सी. जलवायु परिवर्तन 2023 की संश्लेषित रिपोर्ट के अनुसार वर्तमान में भू-मंडलीय ऊष्मन पूर्व-औद्योगिक स्तर से ऊपर 2.1°C है।

**कारण R:** एक शताब्दी से भी अधिक जैव ईंधन प्रज्वलन के साथ असमान और असतत ऊर्जा और भूमि उपयोग ने भू मंडलीय ऊष्मन किया है।

उपरोक्त कथनों के आलोक में, नीचे दिए गए विकल्पों में से सही उत्तर का चयन कीजिए।

1. A और R दोनों सत्य हैं और R, A की सही व्याख्या है
2. A और R दोनों सत्य हैं और R, A की सही व्याख्या नहीं है
3. A सत्य है, लेकिन R असत्य है
4. A असत्य है, लेकिन R सत्य है

**Options :**

68634070377. 1  
68634070378. 2  
68634070379. 3

68634070380. 4

**Question Number : 96 Question Id : 68634017820 Question Type : MCQ Option Shuffling : No Is Question Mandatory : No Calculator : None Response Time : N.A Think Time : N.A Minimum Instruction Time : 0 Correct Marks : 4 Wrong Marks : 1**

Arrange the following events in correct chronological order.

- A. Publication of 'Our Common Future' report.
- B. United Nations Millennium Development Goals
- C. Future We Want - outcome document.
- D. World Summit on Sustainable Development, Johannesburg.
- E. Agenda 21 Action Plan

Choose the correct answer from the options given below:

- 1. A, B, C, D, E
- 2. A, E, B, D, C
- 3. E, B, C, D, A
- 4. A, C, B, D, E

**Options :**

- 68634070381. 1
- 68634070382. 2
- 68634070383. 3
- 68634070384. 4

**Question Number : 96 Question Id : 68634017820 Question Type : MCQ Option Shuffling : No Is Question Mandatory : No Calculator : None Response Time : N.A Think Time : N.A Minimum Instruction Time : 0 Correct Marks : 4 Wrong Marks : 1**

निम्न घटनाओं को सही काल क्रम में व्यवस्थित कीजिए

- A. आवर कॉमन फ्यूचर रिपोर्ट का प्रकाशन
- B. संयुक्त राष्ट्र के सहस्राब्दी विकास उद्देश्य
- C. हमारा एच्छिक भविष्य-परिणाम दस्तावेज़
- D. सतत विकास पर वैश्विक सम्मेलन, जोहान्सबर्ग
- E. एजेंडा 32 कार्य योजना

नीचे दिए गए विकल्पों में से सही उत्तर का चयन कीजिए:

- 1. A, B, C, D, E
- 2. A, E, B, D, C
- 3. E, B, C, D, A
- 4. A, C, B, D, E

**Options :**



68634070381. 1  
68634070382. 2  
68634070383. 3  
68634070384. 4

**Question Number : 97 Question Id : 68634017821 Question Type : MCQ Option Shuffling : No Is Question Mandatory :  
No Calculator : None Response Time : N.A Think Time : N.A Minimum Instruction Time : 0  
Correct Marks : 4 Wrong Marks : 1**

Given below are two statements:

**Statement I:** The United Nations Environment Programme (UNEP) was established in June 1992.

**Statement II:** The World Commission on Environment and Development was established by the UN in 1987 and it was led by G.H. Brundtland, the then Prime Minister of Sweden.

In the light of the above statements, choose the most appropriate answer from the options given below:

1. Both Statement I and Statement II are true
2. Both Statement I and Statement II are false
3. Statement I is true but Statement II is false
4. Statement I is false but Statement II is true

**Options :**

68634070385. 1  
68634070386. 2  
68634070387. 3  
68634070388. 4

**Question Number : 97 Question Id : 68634017821 Question Type : MCQ Option Shuffling : No Is Question Mandatory :  
No Calculator : None Response Time : N.A Think Time : N.A Minimum Instruction Time : 0  
Correct Marks : 4 Wrong Marks : 1**



नीचे दो कथन दिए गए हैं:

**कथन I:** संयुक्त राष्ट्र पर्यावरण कार्यक्रम (UNEP) की स्थापना जून 1992 में की गई थी।

**कथन II:** पर्यावरण और विकास पर विश्व आयोग की स्थापना संयुक्त राष्ट्र द्वारा 1987 में की गई और स्वीडन के तत्कालीन प्रधानमंत्री जी. एच. बर्डलैंड ने इसका नेतृत्व किया था।

उपरोक्त कथनों के आलोक में, नीचे दिए गए विकल्पों में से सबसे उपयुक्त उत्तर का चयन कीजिए:

1. कथन I और II दोनों सही हैं
2. कथन I और II दोनों गलत हैं
3. कथन I सही है लेकिन कथन II गलत है
4. कथन I गलत है लेकिन कथन II सही है

**Options :**

- 68634070385. 1
- 68634070386. 2
- 68634070387. 3
- 68634070388. 4

**Question Number : 98 Question Id : 68634017822 Question Type : MCQ Option Shuffling : No Is Question Mandatory : No Calculator : None Response Time : N.A Think Time : N.A Minimum Instruction Time : 0 Correct Marks : 4 Wrong Marks : 1**

Read the following statements carefully and identify the correct statement/statements:

- A. Millennium Development Goals were identified in Rio Conference and they were to be achieved by 2000.
- B. Those living on less than 1.5 dollar a day were identified as poor in MDG-1.
- C. MDGs included 8 Goals.
- D. Goal 8 under MDGs is to Ensure Environmental Sustainability.

Choose the correct answer from the options given below:

1. C only
2. A, B and C only
3. C and D only
4. D only

**Options :**

- 68634070389. 1
- 68634070390. 2
- 68634070391. 3
- 68634070392. 4

Question Number : 98 Question Id : 68634017822 Question Type : MCQ Option Shuffling : No Is Question Mandatory : No Calculator : None Response Time : N.A Think Time : N.A Minimum Instruction Time : 0  
Correct Marks : 4 Wrong Marks : 1

निम्न कथनों को ध्यानपूर्वक पढ़िए और सही कथन / कथनों को पहचानिये।

- A. सहस्त्राब्दी विकास उद्देश्यों की पहचान रियो सम्मेलन में की गई तथा वर्ष 2000 तक इन्हें प्राप्त कर लिया गया।
- B. एम. डी. जी.-1 के अनुसार जिनकी दैनिक आमदनी 1.5 डॉलर से कम है उनकी पहचान गरीब के रूप में की गई।
- C. एम.डी.जी में आठ उद्देश्य सम्मिलित हैं।
- D. एम.डी.जी के अंतर्गत उद्देश्य-8 पर्यावरण धारीयता सुनिश्चित करता है।

नीचे दिए गए विकल्पों में से सही उत्तर का चयन कीजिए:

- 1. केवल C
- 2. केवल A, B और C
- 3. केवल C और D
- 4. केवल D

Options :

- 68634070389. 1
- 68634070390. 2
- 68634070391. 3
- 68634070392. 4

Question Number : 99 Question Id : 68634017823 Question Type : MCQ Option Shuffling : No Is Question Mandatory : No Calculator : None Response Time : N.A Think Time : N.A Minimum Instruction Time : 0  
Correct Marks : 4 Wrong Marks : 1

Match List I with List II

LIST I (Sustainable Development Goal)		LIST II (Theme)	
A.	Goal 2	I.	Gender Equality
B.	Goal 5	II.	Life Below Water
C.	Goal 10	III.	Zero Hunger
D.	Goal 14	IV.	Reduced Inequalities

Choose the correct answer from the options given below:

- 1. A-III, B-IV, C-II, D-I
- 2. A-III, B-I, C-IV, D-II
- 3. A-IV, B-III, C-II, D-I
- 4. A-IV, B-II, C-I, D-III

Options :

- 68634070393. 1
- 68634070394. 2

68634070395. 3

68634070396. 4

**Question Number : 99 Question Id : 68634017823 Question Type : MCQ Option Shuffling : No Is Question Mandatory : No Calculator : None Response Time : N.A Think Time : N.A Minimum Instruction Time : 0**

**Correct Marks : 4 Wrong Marks : 1**

सूची I का सूची II से मिलान कीजिए

सूची I (सतत विकास उद्देश्य)		सूची II (प्रसंग)	
A.	लक्ष्य -2	I.	लिंग समानता
B.	लक्ष्य -5	II.	पानी के नीचे जीवन
C.	लक्ष्य -10	III.	शून्य भूखमरी
D.	लक्ष्य -14	IV.	घटी हुई असमानतायें

निम्नलिखित विकल्पों में से सही उत्तर का चयन कीजिए :

1. A-III, B-IV, C-II, D-I
2. A-III, B-I, C-IV, D-II
3. A-IV, B-III, C-II, D-I
4. A-IV, B-II, C-I, D-III

**Options :**

68634070393. 1

68634070394. 2

68634070395. 3

68634070396. 4

**Question Number : 100 Question Id : 68634017824 Question Type : MCQ Option Shuffling : No Is Question Mandatory : No Calculator : None Response Time : N.A Think Time : N.A Minimum Instruction Time : 0**

**Correct Marks : 4 Wrong Marks : 1**

Which one of the following mining areas is NOT correctly matched with country.

1. Krivoi Rog-Ukraine
2. Mesabi - USA
3. Chuquicamata - China
4. Katanga - Democratic Republic of Congo

**Options :**

68634070397. 1

68634070398. 2

68634070399. 3

68634070400. 4

**Question Number : 100 Question Id : 68634017824 Question Type : MCQ Option Shuffling : No Is Question Mandatory :  
No Calculator : None Response Time : N.A Think Time : N.A Minimum Instruction Time : 0  
Correct Marks : 4 Wrong Marks : 1**

निम्न में से कौन सा खनन क्षेत्र देश के साथ सुमेलित नहीं है।

1. क्रिवोई रोग - युक्रेन
2. मेसाबी-यू. एस. ए.
3. चुक्बिकामाटा-चीन
4. कटंगा- कांगो लोकतांत्रिक गणराज्य

**Options :**

- 68634070397. 1
- 68634070398. 2
- 68634070399. 3
- 68634070400. 4