

National Testing Agency

Question Paper Name : B Ed Hin 02nd July 2023 Shift 3
Subject Name : B Ed Hin
Creation Date : 2023-07-02 20:55:56
Duration : 120
Total Marks : 400
Display Marks: Yes

B Ed

Group Number : 1
Group Id : 686340490
Group Maximum Duration : 0
Group Minimum Duration : 120
Show Attended Group? : No
Edit Attended Group? : No
Break time : 0
Group Marks : 400
Is this Group for Examiner? : No
Examiner permission : Cant View
Show Progress Bar? : No

Part A

Section Id : 686340975
Section Number : 1
Section type : Online
Mandatory or Optional : Mandatory
Number of Questions : 21
Number of Questions to be attempted : 21
Section Marks : 100
Enable Mark as Answered Mark for Review and Clear Response : Yes
Maximum Instruction Time : 0
Sub-Section Number : 1
Sub-Section Id : 6863401611
Question Shuffling Allowed : No
Is Section Default? : null

**Question Id : 68634049513 Question Type : COMPREHENSION Sub Question Shuffling Allowed : Yes Group
Comprehension Questions : No Question Pattern Type : NonMatrix Calculator : None Response Time : N.A Think Time
: N.A Minimum Instruction Time : 0
Question Numbers : (1 to 5)
Question Label : Comprehension**

Read the Passage and answer Questions.

Independence by Chitra Banerjee Divakaruni binds the reader in a spell. The narration is beguilingly informal and taut, while the story line is immense yet immediate. It is extremely rare that an author establishes such a spontaneous rapport with an unknown reader. With this novel, Divakaruni firmly marks her territory among the foremost storytellers of this nation and of her destiny.

Independence tells the story of the birth of modern India. The demand for separate Islamic nation by Muhammad Ali Jinnah-led Muslim League led to the Direct Action Day in August 1946. Shows of force by two communal groups escalated in to a bloodbath in Kolkata, the fires of which rapidly spread to other places. Today this is India's one enduring political legacy and the horrors of partition are so profound that no survivor utters its full description.

Divakaruni's work of fiction is set in these uneasy times. Ranipur, a small nondescript village tucked away on the banks of River Sarasi, forms the backdrop to the deep friendship between the wealthy landlord Somnath Babu and Dr Nabakumar Ganguly, whose families are forever entwined by tragedy and the pain of loss. The cast of characters is sparse yet weaves a heartbreaking tale of an entire region's history. What makes the narrative seep under the skin of the reader is that it is fundamentally a paean to love, in the wake of which comes a churn of human emotions-anger, rejection, jealousy-boundaries that may be broken or defeated by elation strength, responsibility, devastation and a reason to live despite it all. It is what binds this cast of characters and what wrecks their lives. So many tragedies could have been averted but the human heart longs for what it longs for and nothing may change that Each character, spare and yet rendered almost in flesh, is luminous. Even the villains reach out of the menace pages with the deaths and there are far too many of them are brutal. Each underlines the devastation of that moment in time as also the devastation being committed to an idea or cause may bring. The inferno of partition is not shied away from and it is extraordinary how the engaging style of writing sustains both the historic and the domestic, the catastrophic and the intimate.

Sub questions

Question Number : 1 Question Id : 68634049514 Question Type : MCQ Option Shuffling : No Is Question Mandatory : No Calculator : None Response Time : N.A Think Time : N.A Minimum Instruction Time : 0

Correct Marks : 4 Wrong Marks : 1

The given passage is

1. Persuasive
2. Descriptive
3. Factual
4. Analytical

Options :

- 686340195601. 1
- 686340195602. 2
- 686340195603. 3
- 686340195604. 4

Question Number : 2 Question Id : 68634049515 Question Type : MCQ Option Shuffling : No Is Question Mandatory : No Calculator : None Response Time : N.A Think Time : N.A Minimum Instruction Time : 0

Correct Marks : 4 Wrong Marks : 1

'Divakaruni's work of fiction is set in these "uneasy times". The underlined phrase is an example of:

1. Metaphor
2. Hyperbole
3. Transferred Epithet
4. Allusion

Options :

- 686340195605. 1
- 686340195606. 2
- 686340195607. 3
- 686340195608. 4

Question Number : 3 Question Id : 68634049516 Question Type : MCQ Option Shuffling : No Is Question Mandatory : No Calculator : None Response Time : N.A Think Time : N.A Minimum Instruction Time : 0

Correct Marks : 4 Wrong Marks : 1

According to passage , the novel Independence talks about

- A. Partition of Indian subcontinent
- B. Process of decolonization
- C. Demand for separate Muslim state
- D. Birth of modern India

Choose the appropriate answer from the options given below:

1. A Only
2. All the above
3. A & C Only
4. B & D Only

Options :

- 686340195609. 1
- 686340195610. 2
- 686340195611. 3
- 686340195612. 4

Question Number : 4 Question Id : 68634049517 Question Type : MCQ Option Shuffling : No Is Question Mandatory : No Calculator : None Response Time : N.A Think Time : N.A Minimum Instruction Time : 0

Correct Marks : 4 Wrong Marks : 1

Based on your understanding, pick the most appropriate option from below:

1. The author has not tried to romanticize the topic of partition
2. The author has tried to complicate the issue of partition by showing too many deaths
3. The author has tried to change the history of partition through her linguistic style
4. Both (1) and (2)

Options :

- 686340195613. 1
- 686340195614. 2
- 686340195615. 3
- 686340195616. 4

Question Number : 5 Question Id : 68634049518 Question Type : MCQ Option Shuffling : No Is Question Mandatory : No Calculator : None Response Time : N.A Think Time : N.A Minimum Instruction Time : 0 Correct Marks : 4 Wrong Marks : 1

The expression "seep under the skin" could mean:

1. It stimulates the curiosity of the reader
2. Keeps the reader emotionally invested
3. Keeps the reader physically involved
4. Causes a sensory overload to the reader

Options :

- 686340195617. 1
- 686340195618. 2
- 686340195619. 3
- 686340195620. 4

Question Id : 68634049513 Question Type : COMPREHENSION Sub Question Shuffling Allowed : Yes Group Comprehension Questions : No Question Pattern Type : NonMatrix Calculator : None Response Time : N.A Think Time : N.A Minimum Instruction Time : 0

Question Numbers : (1 to 5)

Question Label : Comprehension

नीचे लिखे गद्यांश को पढ़ें और प्रश्न के उत्तर दीजिए:

कोई अधिकारी भ्रष्टाचारी है, यह कहने के लिए हिंदी में 'खाता है' मुहावरे का प्रयोग ठाक-ठीक कब शुरू हुआ, कहना मुश्किल है। रुपए-पैसे को खाने से जोड़ना किसी अज्ञात सांस्कृतिक प्रवृत्ति की ओर इशारा करता है। इस भाषाई अविष्कार से भ्रष्टाचार पर कोई असर पड़ा हो या नहीं, खाने की चीजों पर अवश्य पड़ा है। भाषा में आनेवाले परिवर्तन हमेशा जीवन के अन्य स्तरों में चल रही हलचल के संकेत देते हैं। संभवतः भोजन में हो रहे बदलाव और खाने को लेकर उत्तर भारतीय समाज की दृष्टि और समझ में दिखाई दे रहे परिवर्तन इस बात के द्योतक हैं कि एक तरह की ढील और विकृति को सहने की क्षमता बढ़ती चली गयी है।

परवल जैसी सब्जी को, जो पहले ही हरी है, और हरा करके बेचने की जरूरत इसीलिए हो सकती है कि रंग का आकर्षण सनसनी पैदा करता है। वैसे सनसनी का अभाव हिंदी पत्रकारिता और टेलिविज़न की पुरज़ोर कोशिशों के चलते किसी के जीवन में पैदा नहीं हो सकता, मगर यह चीज़ ही ऐसी है। दालों के स्वाभाविक रंग ही आकर्षक होते हैं, पर उनके असली नाम बड़े-बड़े होटलों में भुलाये जाने लगे हैं और अरहर को 'यलो दाल' और खड़ी मसूर को ब्लैक दाल कहने के साथ ही दाल के दानों पर रंग चढ़ाने की प्रवृत्ति भी बढ़ी है। कौन नहीं जानता कि ये रंग जहरीले हैं।

भोजन और सामाजिक संबंधों की बुनावट में छिपे हुए संवाद और परिवर्तन नई तरह की जीवनशैली के दबाव में अक्सर हमारी दृष्टि से ओझल रहते हैं। प्लास्टिक की बोतलों में बनाये और बेचे जानेवाले अचार इस बात का तीखा उदाहरण हैं। वैज्ञानिक अध्ययन बताते हैं कि प्लास्टिक की बोतल में बेचा जाने वाला पानी भी धूप में पड़े-पड़े ज़हरीला हो जाता है, क्योंकि प्लास्टिक की संरचना में व्याप्त रसायन तापमान बढ़ने से सक्रिय हो जाते हैं। नींबू या आम का अचार डालकर उसे धूप में रखने का रिवाज़ बहुत पुराना है, लेकिन पहले के समय में कांच या पत्थर की बरनी का इस्तेमाल होता था। अचार उदयोग में वैसे ही रसायनों और रंगों का अतिरेक रहा है, ऊपर से प्लास्टिक की बोतल का इस्तेमाल खतरे का एक नया पहलू जोड़ता है।

Sub questions

Question Number : 1 Question Id : 68634049514 Question Type : MCQ Option Shuffling : No Is Question Mandatory : No Calculator : None Response Time : N.A Think Time : N.A Minimum Instruction Time : 0

Correct Marks : 4 Wrong Marks : 1

वैसे सनसनी का अभाव हिंदी पत्रकारिता और टेलीविज़न की _____ कोशिशों के चलते किसी के जीवन में पैदा नहीं हो सकता।

बिना अर्थ बदले वाक्य को पूरा करें

1. रंगीन
2. आकर्षक
3. कमज़ोर
4. भरपूर

Options :

686340195601. 1
686340195602. 2
686340195603. 3

686340195604. 4

Question Number : 2 Question Id : 68634049515 Question Type : MCQ Option Shuffling : No Is Question Mandatory : No Calculator : None Response Time : N.A Think Time : N.A Minimum Instruction Time : 0 Correct Marks : 4 Wrong Marks : 1

इस गद्दाश में खाने और सब्जी में रंग डालने को लेकर लेखक का रवैया _____ है

1. उत्साहवर्धक
2. आकर्षणात्मक
3. आलोचनात्मक
4. विश्लेषणात्मक

Options :

686340195605. 1
686340195606. 2
686340195607. 3
686340195608. 4

Question Number : 3 Question Id : 68634049516 Question Type : MCQ Option Shuffling : No Is Question Mandatory : No Calculator : None Response Time : N.A Think Time : N.A Minimum Instruction Time : 0 Correct Marks : 4 Wrong Marks : 1

घूस लेने के लिए कौन सी उपमा का प्रयोग प्रचलित नहीं है?

1. पचाता है
2. गटकता है
3. निगलता है
4. उगलता है

Options :

686340195609. 1
686340195610. 2
686340195611. 3
686340195612. 4

Question Number : 4 Question Id : 68634049517 Question Type : MCQ Option Shuffling : No Is Question Mandatory : No Calculator : None Response Time : N.A Think Time : N.A Minimum Instruction Time : 0 Correct Marks : 4 Wrong Marks : 1

गद्दांश मे 'खाता है' मुहावरा किस बात की अभिव्यक्ति के लिए इस्तेमाल हुआ है

1. सामाजिक अव्यवस्था को बताने के लिए
2. प्रकृति के नियमों के विरुद्ध जाने के लिए
3. शासन के नियमों को प्रभावित करने के लिए
4. खाने और जीवन को रंगीन बनाने के लिए

Options :

686340195613. 1
686340195614. 2
686340195615. 3
686340195616. 4

Question Number : 5 Question Id : 68634049518 Question Type : MCQ Option Shuffling : No Is Question Mandatory : No Calculator : None Response Time : N.A Think Time : N.A Minimum Instruction Time : 0 Correct Marks : 4 Wrong Marks : 1

इस गद्दांश से कौन से विवेकपूर्ण निष्कर्ष निकाले जा सकते हैं

- A. बोतल में पड़े रहने से अचार खराब हो जाता है।
B. नीर के लिए प्लास्टिक की बोतल सही नहीं होती है।

नीचे दिए गए विकल्पों में से **सही उत्तर** का चयन कीजिए:

1. केवल B
2. केवल A
3. A और B दोनों
4. दोनों में से कोई नहीं

Options :

686340195617. 1
686340195618. 2
686340195619. 3
686340195620. 4

Sub-Section Number :

2

Sub-Section Id :

6863401612

Question Shuffling Allowed :

Yes

Is Section Default? :

null

Question Number : 6 Question Id : 68634049519 Question Type : MCQ Option Shuffling : No Is Question Mandatory : No Calculator : None Response Time : N.A Think Time : N.A Minimum Instruction Time : 0 Correct Marks : 4 Wrong Marks : 1

I seem to be _____ in energy this morning

1. Bereft
2. Short
3. Low
4. Lack

Options :

686340195621. 1
686340195622. 2
686340195623. 3
686340195624. 4

Question Number : 6 Question Id : 68634049519 Question Type : MCQ Option Shuffling : No Is Question Mandatory : No Calculator : None Response Time : N.A Think Time : N.A Minimum Instruction Time : 0

Correct Marks : 4 Wrong Marks : 1

अधोलिखित में से तदभव शब्द है

1. प्रत्यभिज्ञान
2. षिटक
3. पिटारा
4. परिधान

Options :

686340195621. 1
686340195622. 2
686340195623. 3
686340195624. 4

Question Number : 7 Question Id : 68634049520 Question Type : MCQ Option Shuffling : No Is Question Mandatory : No Calculator : None Response Time : N.A Think Time : N.A Minimum Instruction Time : 0

Correct Marks : 4 Wrong Marks : 1

Managers claim we were in desperate _____ of greater investment in our industries

1. requirement
2. excess
3. lack
4. need

Options :

686340195625. 1
686340195626. 2

686340195627. 3

686340195628. 4

**Question Number : 7 Question Id : 68634049520 Question Type : MCQ Option Shuffling : No Is Question Mandatory :
No Calculator : None Response Time : N.A Think Time : N.A Minimum Instruction Time : 0
Correct Marks : 4 Wrong Marks : 1**

वर्तनी की दृष्टि से कौन सा शब्द अशुद्ध है

1. अन्तर्धान
2. अधीन
3. आध्यात्म
4. अनुगृहीत

Options :

686340195625. 1

686340195626. 2

686340195627. 3

686340195628. 4

**Question Number : 8 Question Id : 68634049521 Question Type : MCQ Option Shuffling : No Is Question Mandatory :
No Calculator : None Response Time : N.A Think Time : N.A Minimum Instruction Time : 0
Correct Marks : 4 Wrong Marks : 1**

This neighborhood looks a little _____ and tatty these days

1. Well heeled
2. Well-off
3. run down
4. Down and out

Options :

686340195629. 1

686340195630. 2

686340195631. 3

686340195632. 4

**Question Number : 8 Question Id : 68634049521 Question Type : MCQ Option Shuffling : No Is Question Mandatory :
No Calculator : None Response Time : N.A Think Time : N.A Minimum Instruction Time : 0
Correct Marks : 4 Wrong Marks : 1**

अनुरूप का विलोम है:

1. विरुप
2. व्यतिरुप
3. प्रतिरुप
4. अपरुप

Options :

686340195629. 1
686340195630. 2
686340195631. 3
686340195632. 4

**Question Number : 9 Question Id : 68634049522 Question Type : MCQ Option Shuffling : No Is Question Mandatory :
No Calculator : None Response Time : N.A Think Time : N.A Minimum Instruction Time : 0
Correct Marks : 4 Wrong Marks : 1**

The builders told us that pile of cement was _____ to their requirement.

1. excess
2. extra
3. space
4. surplus

Options :

686340195633. 1
686340195634. 2
686340195635. 3
686340195636. 4

**Question Number : 9 Question Id : 68634049522 Question Type : MCQ Option Shuffling : No Is Question Mandatory :
No Calculator : None Response Time : N.A Think Time : N.A Minimum Instruction Time : 0
Correct Marks : 4 Wrong Marks : 1**

चौराहा में समास है:

1. द्वंद्व
2. तत्पुरुष
3. कर्मधारय
4. द्विगु

Options :

686340195633. 1
686340195634. 2
686340195635. 3
686340195636. 4

**Question Number : 10 Question Id : 68634049523 Question Type : MCQ Option Shuffling : No Is Question Mandatory :
No Calculator : None Response Time : N.A Think Time : N.A Minimum Instruction Time : 0
Correct Marks : 4 Wrong Marks : 1**

I don't think anything would _____ me to leave this house

1. prevail
2. induce
3. entail
4. instigate

Options :

686340195637. 1
686340195638. 2
686340195639. 3
686340195640. 4

**Question Number : 10 Question Id : 68634049523 Question Type : MCQ Option Shuffling : No Is Question Mandatory :
No Calculator : None Response Time : N.A Think Time : N.A Minimum Instruction Time : 0
Correct Marks : 4 Wrong Marks : 1**

भभूत का तत्सम शब्द है:

1. भभूति
2. विभूति
3. बभूति
4. भवभूति

Options :

686340195637. 1
686340195638. 2
686340195639. 3
686340195640. 4

**Question Number : 11 Question Id : 68634049524 Question Type : MCQ Option Shuffling : No Is Question Mandatory :
No Calculator : None Response Time : N.A Think Time : N.A Minimum Instruction Time : 0
Correct Marks : 4 Wrong Marks : 1**

The _____ of people who attended the public meeting was surprisingly large

1. number
2. figure
3. amount
4. sum

Options :

- 686340195641. 1
- 686340195642. 2
- 686340195643. 3
- 686340195644. 4

Question Number : 11 Question Id : 68634049524 Question Type : MCQ Option Shuffling : No Is Question Mandatory : No Calculator : None Response Time : N.A Think Time : N.A Minimum Instruction Time : 0

Correct Marks : 4 Wrong Marks : 1

'गूलर का फूल होना' का अर्थ है

1. दुर्लभ होना
2. लाल पीला होना
3. विवर्ण होना
4. सुंदर होना

Options :

- 686340195641. 1
- 686340195642. 2
- 686340195643. 3
- 686340195644. 4

Question Number : 12 Question Id : 68634049525 Question Type : MCQ Option Shuffling : No Is Question Mandatory : No Calculator : None Response Time : N.A Think Time : N.A Minimum Instruction Time : 0

Correct Marks : 4 Wrong Marks : 1

The film ends with sheriff lying in a _____ of blood

1. bath
2. pool
3. puddle
4. jet

Options :

- 686340195645. 1

686340195646. 2

686340195647. 3

686340195648. 4

Question Number : 12 Question Id : 68634049525 Question Type : MCQ Option Shuffling : No Is Question Mandatory : No Calculator : None Response Time : N.A Think Time : N.A Minimum Instruction Time : 0

Correct Marks : 4 Wrong Marks : 1

अधोलिखित में से कौन सी बोली उत्तरप्रदेश की नहीं है?

1. ब्रज

2. बघेली

3. भोजपुरी

4. अवधी

Options :

686340195645. 1

686340195646. 2

686340195647. 3

686340195648. 4

Question Number : 13 Question Id : 68634049526 Question Type : MCQ Option Shuffling : No Is Question Mandatory : No Calculator : None Response Time : N.A Think Time : N.A Minimum Instruction Time : 0

Correct Marks : 4 Wrong Marks : 1

1 gather there was _____ doubt as to who should pay the bill

1. any

2. the

3. some

4. every

Options :

686340195649. 1

686340195650. 2

686340195651. 3

686340195652. 4

Question Number : 13 Question Id : 68634049526 Question Type : MCQ Option Shuffling : No Is Question Mandatory : No Calculator : None Response Time : N.A Think Time : N.A Minimum Instruction Time : 0

Correct Marks : 4 Wrong Marks : 1

जलज शब्द निम्न में से किस लिए प्रयोग किया जाता है?

1. सरोवर
2. नदी
3. मेढक
4. तालाब

Options :

686340195649. 1
686340195650. 2
686340195651. 3
686340195652. 4

**Question Number : 14 Question Id : 68634049527 Question Type : MCQ Option Shuffling : No Is Question Mandatory :
No Calculator : None Response Time : N.A Think Time : N.A Minimum Instruction Time : 0**

Correct Marks : 4 Wrong Marks : 1

Unfortunately _____ too often one of our players gives the ball away.

1. every
2. none
3. once
4. all

Options :

686340195653. 1
686340195654. 2
686340195655. 3
686340195656. 4

**Question Number : 14 Question Id : 68634049527 Question Type : MCQ Option Shuffling : No Is Question Mandatory :
No Calculator : None Response Time : N.A Think Time : N.A Minimum Instruction Time : 0**

Correct Marks : 4 Wrong Marks : 1

अधोलिखित में से कौन सा पर्यायवाची युग्म सही नहीं है?

1. पुरन्दर - अमरपति
2. पवन - वायु
3. सरोवर - पुष्कर
4. जलधि - अम्बुद

Options :

686340195653. 1
686340195654. 2
686340195655. 3
686340195656. 4

**Question Number : 15 Question Id : 68634049528 Question Type : MCQ Option Shuffling : No Is Question Mandatory :
No Calculator : None Response Time : N.A Think Time : N.A Minimum Instruction Time : 0
Correct Marks : 4 Wrong Marks : 1**

I have rarely seen such an impressive sight as a _____ of buffalo roaming over the plains

1. flock
2. swarm
3. herd
4. pack

Options :

686340195657. 1
686340195658. 2
686340195659. 3
686340195660. 4

**Question Number : 15 Question Id : 68634049528 Question Type : MCQ Option Shuffling : No Is Question Mandatory :
No Calculator : None Response Time : N.A Think Time : N.A Minimum Instruction Time : 0
Correct Marks : 4 Wrong Marks : 1**

राजीव का अर्थ है

1. राजा
2. रत्न
3. कमल
4. नयन

Options :

686340195657. 1
686340195658. 2
686340195659. 3
686340195660. 4

**Question Number : 16 Question Id : 68634049529 Question Type : MCQ Option Shuffling : No Is Question Mandatory :
No Calculator : None Response Time : N.A Think Time : N.A Minimum Instruction Time : 0
Correct Marks : 4 Wrong Marks : 1**

The painting bears a _____ resemblance to El Greco's earlier work

1. heated
2. striking
3. fine
4. comparable

Options :

- 686340195661. 1
- 686340195662. 2
- 686340195663. 3
- 686340195664. 4

Question Number : 16 Question Id : 68634049529 Question Type : MCQ Option Shuffling : No Is Question Mandatory : No Calculator : None Response Time : N.A Think Time : N.A Minimum Instruction Time : 0 Correct Marks : 4 Wrong Marks : 1

संविधान के अनुच्छेद 351 में किस विषय का वर्णन है:

1. संघ की राजभाषा
2. हिन्दी के विकास के लिए निर्देश
3. अदालत की भाषा
4. तमिल और हिन्दी के मिलन के निर्देश

Options :

- 686340195661. 1
- 686340195662. 2
- 686340195663. 3
- 686340195664. 4

Question Number : 17 Question Id : 68634049530 Question Type : MCQ Option Shuffling : No Is Question Mandatory : No Calculator : None Response Time : N.A Think Time : N.A Minimum Instruction Time : 0 Correct Marks : 4 Wrong Marks : 1

I don't think its fair to _____ a comparison between the two sisters

1. do
2. strike
3. take
4. draw

Options :

- 686340195665. 1

686340195666. 2

686340195667. 3

686340195668. 4

Question Number : 17 Question Id : 68634049530 Question Type : MCQ Option Shuffling : No Is Question Mandatory : No Calculator : None Response Time : N.A Think Time : N.A Minimum Instruction Time : 0

Correct Marks : 4 Wrong Marks : 1

भारतीय संविधान की आठवीं अनुसूची में शामिल भाषाओं की संख्या है

1. 14

2. 15

3. 18

4. 22

Options :

686340195665. 1

686340195666. 2

686340195667. 3

686340195668. 4

Question Number : 18 Question Id : 68634049531 Question Type : MCQ Option Shuffling : No Is Question Mandatory : No Calculator : None Response Time : N.A Think Time : N.A Minimum Instruction Time : 0

Correct Marks : 4 Wrong Marks : 1

She gave a _____ performance of the concert that had the audience on its feet.

1. matchless

2. suitable

3. listless

4. competent

Options :

686340195669. 1

686340195670. 2

686340195671. 3

686340195672. 4

Question Number : 18 Question Id : 68634049531 Question Type : MCQ Option Shuffling : No Is Question Mandatory : No Calculator : None Response Time : N.A Think Time : N.A Minimum Instruction Time : 0

Correct Marks : 4 Wrong Marks : 1

भाषा निर्माण की इकाइयों का सही अनुक्रम है:

1. ध्वनि, शब्द, पद, वाक्य
2. शब्द, वाक्य, ध्वनि, पद
3. पद, वाक्य, ध्वनि, शब्द
4. शब्द, ध्वनि, वाक्य, पद

Options :

686340195669. 1
686340195670. 2
686340195671. 3
686340195672. 4

Question Number : 19 Question Id : 68634049532 Question Type : MCQ Option Shuffling : No Is Question Mandatory : No Calculator : None Response Time : N.A Think Time : N.A Minimum Instruction Time : 0 Correct Marks : 4 Wrong Marks : 1

Saying you enjoy rock music is _____ to admitting you are completely cloth-earned.

1. bound
2. virtually
3. tantamount
4. liable

Options :

686340195673. 1
686340195674. 2
686340195675. 3
686340195676. 4

Question Number : 19 Question Id : 68634049532 Question Type : MCQ Option Shuffling : No Is Question Mandatory : No Calculator : None Response Time : N.A Think Time : N.A Minimum Instruction Time : 0 Correct Marks : 4 Wrong Marks : 1

शुद्ध वर्तनी का चलन करें:

1. प्रक्कथन
2. प्राकथन
3. प्राक्कथन
4. प्रकाथन

Options :

686340195673. 1
686340195674. 2
686340195675. 3
686340195676. 4

**Question Number : 20 Question Id : 68634049533 Question Type : MCQ Option Shuffling : No Is Question Mandatory :
No Calculator : None Response Time : N.A Think Time : N.A Minimum Instruction Time : 0
Correct Marks : 4 Wrong Marks : 1**

Its _____ that he forgot three consecutive appointments.

1. unintelligible
2. inscrutable
3. incompatible
4. inconceivable

Options :

686340195677. 1
686340195678. 2
686340195679. 3
686340195680. 4

**Question Number : 20 Question Id : 68634049533 Question Type : MCQ Option Shuffling : No Is Question Mandatory :
No Calculator : None Response Time : N.A Think Time : N.A Minimum Instruction Time : 0
Correct Marks : 4 Wrong Marks : 1**

निरर्थक का सही विच्छेद है:

1. निर: + अर्थक
2. निरा + अर्थक
3. निर् + अर्थक
4. नि: + अर्थक

Options :

686340195677. 1
686340195678. 2
686340195679. 3
686340195680. 4

**Question Number : 21 Question Id : 68634049534 Question Type : MCQ Option Shuffling : No Is Question Mandatory :
No Calculator : None Response Time : N.A Think Time : N.A Minimum Instruction Time : 0
Correct Marks : 4 Wrong Marks : 1**

The performance in the last scene was quite _____

1. describable
2. notable
3. noticeable
4. remarkable

Options :

686340195681. 1
686340195682. 2
686340195683. 3
686340195684. 4

Question Number : 21 Question Id : 68634049534 Question Type : MCQ Option Shuffling : No Is Question Mandatory : No Calculator : None Response Time : N.A Think Time : N.A Minimum Instruction Time : 0

Correct Marks : 4 Wrong Marks : 1

निर्वाह में उपयुक्त उपसर्ग है:

1. नि:
2. नि
3. निरी
4. निर

Options :

686340195681. 1
686340195682. 2
686340195683. 3
686340195684. 4

Question Number : 22 Question Id : 68634049535 Question Type : MCQ Option Shuffling : No Is Question Mandatory : No Calculator : None Response Time : N.A Think Time : N.A Minimum Instruction Time : 0

Correct Marks : 4 Wrong Marks : 1

The shoplifter claimed she had every _____ of putting the goods back.

1. purpose
2. intention
3. hope
4. aim

Options :

686340195685. 1
686340195686. 2

686340195687. 3

686340195688. 4

Question Number : 22 Question Id : 68634049535 Question Type : MCQ Option Shuffling : No Is Question Mandatory : No Calculator : None Response Time : N.A Think Time : N.A Minimum Instruction Time : 0

Correct Marks : 4 Wrong Marks : 1

मृगनयनी में कौन सा समास है?

1. तत्पुरुष
2. कर्मधारय
3. बहुब्रीहि
4. अव्ययीभाव

Options :

686340195685. 1

686340195686. 2

686340195687. 3

686340195688. 4

Question Number : 23 Question Id : 68634049536 Question Type : MCQ Option Shuffling : No Is Question Mandatory : No Calculator : None Response Time : N.A Think Time : N.A Minimum Instruction Time : 0

Correct Marks : 4 Wrong Marks : 1

It was a long dispute with neither side giving ____ easily

1. clearance
2. ground
3. inch
4. hand

Options :

686340195689. 1

686340195690. 2

686340195691. 3

686340195692. 4

Question Number : 23 Question Id : 68634049536 Question Type : MCQ Option Shuffling : No Is Question Mandatory : No Calculator : None Response Time : N.A Think Time : N.A Minimum Instruction Time : 0

Correct Marks : 4 Wrong Marks : 1

रेलगाड़ी शब्द है

1. विदेशज
2. संकर
3. देशज
4. तत्सम

Options :

686340195689. 1
686340195690. 2
686340195691. 3
686340195692. 4

Question Number : 24 Question Id : 68634049537 Question Type : MCQ Option Shuffling : No Is Question Mandatory : No Calculator : None Response Time : N.A Think Time : N.A Minimum Instruction Time : 0 Correct Marks : 4 Wrong Marks : 1

The _____ of the trouble was the decision to allow non-members into the club

1. root
2. stem
3. mould
4. trigger

Options :

686340195693. 1
686340195694. 2
686340195695. 3
686340195696. 4

Question Number : 24 Question Id : 68634049537 Question Type : MCQ Option Shuffling : No Is Question Mandatory : No Calculator : None Response Time : N.A Think Time : N.A Minimum Instruction Time : 0 Correct Marks : 4 Wrong Marks : 1

"नल बूंद-बूंद टपक रहा है", वाक्य में रेखांकित शब्द है:

1. क्रिया विशेषण
2. क्रिया
3. सर्वनाम
4. विशेषण

Options :

686340195693. 1

686340195694. 2

686340195695. 3

686340195696. 4

Question Number : 25 Question Id : 68634049538 Question Type : MCQ Option Shuffling : No Is Question Mandatory : No Calculator : None Response Time : N.A Think Time : N.A Minimum Instruction Time : 0

Correct Marks : 4 Wrong Marks : 1

Van Gogh suffered from depression _____ by overwork and ill-health

1. coming about
2. taken up
3. brought on
4. put through

Options :

686340195697. 1

686340195698. 2

686340195699. 3

686340195700. 4

Question Number : 25 Question Id : 68634049538 Question Type : MCQ Option Shuffling : No Is Question Mandatory : No Calculator : None Response Time : N.A Think Time : N.A Minimum Instruction Time : 0

Correct Marks : 4 Wrong Marks : 1

कौन रक्त का पर्यायवाची शब्द नहीं है

1. शोणित
2. रुधिर
3. कासरि
4. खून

Options :

686340195697. 1

686340195698. 2

686340195699. 3

686340195700. 4

Part B

Section Id :	686340976
Section Number :	2
Section type :	Online
Mandatory or Optional :	Mandatory
Number of Questions :	67
Number of Questions to be attempted :	67

Section Marks : 300
Enable Mark as Answered Mark for Review and Clear Response : Yes
Maximum Instruction Time : 0
Sub-Section Number : 1
Sub-Section Id : 6863401613
Question Shuffling Allowed : No
Is Section Default? : null

Question Id : 68634049539 Question Type : COMPREHENSION Sub Question Shuffling Allowed : Yes Group Comprehension Questions : No Question Pattern Type : NonMatrix Calculator : None Response Time : N.A Think Time : N.A Minimum Instruction Time : 0

Question Numbers : (26 to 30)

Question Label : Comprehension

Based on the Passage given below answer the questions.

The distribution of opportunities for learning available in a society is an important factor that influences both how 'worth' of a certain kind of knowledge is perceived or weighed and how knowledge that is regarded as worthy of being taught will be represented in educational materials. We can take for granted that the knowledge relevant or related to groups whose access to education is poor will not be regarded as worthy of being taught in schools. The knowledge of animal behaviour and medicinal plants that the Baigas have acquired over a length acquaintance with the jungles of central India is unlikely to be regarded as worthwhile educational knowledge. Baiga children have poor access to opportunities for education and their chances of doing well at school are very slim at least partly because the Baiga's life finds no resonance in the school curriculum.

How the method of teaching affects the character of what is taught can be seen in the teaching of science. The distinctness of science as a school subject comes from the need for experimentation by the learner. As a subject that demand experimentation and independent inquiry by the learner, science is associated with freedom of judgement and equality between the student and the teacher in the presence of objective facts. Science education is supposed to be conducive to secular values precisely because it makes ascribed authority redundant, But if science is taught in a traditional manner with the authority of the textbook and the teacher's word and without opportunity for experimentation it would cease to have a secular character and value. Once it loses its original character owing to the application of conventional pedagogies, science can easily become an instrument for authoritarian control in the classroom and in society. The practice of science in a milieu that does not permit equality or open questioning might lead pupils into imbibing values that are antithetical to science. Also science can reinforce existing structure of dominance if its content and the method of teaching are not reorganised from the perspective of powerless social groups.

Not just the character of what is taught but the volume of content, too, is affected by the methods of teaching.

Sub questions

Question Number : 26 Question Id : 68634049540 Question Type : MCQ Option Shuffling : No Is Question Mandatory : No Calculator : None Response Time : N.A Think Time : N.A Minimum Instruction Time : 0 Correct Marks : 4 Wrong Marks : 1

In the passage what is an important factor that determines the worth of a particular kind of knowledge?

1. Access to wealth
2. Cultural background and expertise
3. Access to educational opportunities
4. Political ancestry

Options :

- 686340195701. 1
- 686340195702. 2
- 686340195703. 3
- 686340195704. 4

Question Number : 27 Question Id : 68634049541 Question Type : MCQ Option Shuffling : No Is Question Mandatory : No Calculator : None Response Time : N.A Think Time : N.A Minimum Instruction Time : 0

Correct Marks : 4 Wrong Marks : 1

Which of the following statements is FALSE about science education?

1. Science education should be reorganized from the perspective of marginalised groups
2. Science can become an instrument of authoritarian control in the society
3. Not practicing open questioning in the classroom can lead to inculcation of unscientific values
4. Science education must be in opposition to the values of secularism sparing little room for judgement

Options :

- 686340195705. 1
- 686340195706. 2
- 686340195707. 3
- 686340195708. 4

Question Number : 28 Question Id : 68634049542 Question Type : MCQ Option Shuffling : No Is Question Mandatory : No Calculator : None Response Time : N.A Think Time : N.A Minimum Instruction Time : 0

Correct Marks : 4 Wrong Marks : 1

Which of the following are crucial elements in the teaching of science?

- A. Investigation
- B. Ascribed authority
- C. Textbooks
- D. Experimentation

Choose the **correct answer** from the options given below:

1. A and B
2. A and D
3. A, B and D
4. B,C and D

Options :

- 686340195709. 1
- 686340195710. 2
- 686340195711. 3
- 686340195712. 4

Question Number : 29 Question Id : 68634049543 Question Type : MCQ Option Shuffling : No Is Question Mandatory : No Calculator : None Response Time : N.A Think Time : N.A Minimum Instruction Time : 0

Correct Marks : 4 Wrong Marks : 1

According to passage , identify the aspects that can be affected by the methods of teaching from the following list.

- A. Nature of what is taught
- B. Volume of content
- C. Constituents of knowledge
- D. Opportunity for upward mobility

Choose the **correct answer** from the options given below:

1. A and B
2. A, B and D
3. B, C and D
4. B and D

Options :

- 686340195713. 1
- 686340195714. 2
- 686340195715. 3
- 686340195716. 4

Question Number : 30 Question Id : 68634049544 Question Type : MCQ Option Shuffling : No Is Question Mandatory : No Calculator : None Response Time : N.A Think Time : N.A Minimum Instruction Time : 0

Correct Marks : 4 Wrong Marks : 1

Given below are two statements: one is labelled as **Assertion A** and the other is labelled as **Reason R**

Assertion A: Knowledge of the Baiga myth of the world's creation will be considered worth while educational knowledge

Reason R: Inclusion of the Baiga experience in the curriculum depends upon their performance in today's competitive society

In the light of the above statements, choose the *most appropriate answer* from the options given below.

1. Both **A** and **R** are correct and **R** is the correct explanation of **A**
2. Both **A** and **R** are correct and **R** is **NOT** the correct explanation of **A**
3. **A** is correct but **R** is not correct
4. **A** is not correct but **R** is correct

Options :

686340195717. 1

686340195718. 2

686340195719. 3

686340195720. 4

Question Id : 68634049539 Question Type : COMPREHENSION Sub Question Shuffling Allowed : Yes Group Comprehension Questions : No Question Pattern Type : NonMatrix Calculator : None Response Time : N.A Think Time : N.A Minimum Instruction Time : 0

Question Numbers : (26 to 30)

Question Label : Comprehension

निम्नलिखित गद्यांश को पढ़े और इसके आधार पर प्रश्नों के उत्तर दीजिए।

किसी भी समाज में अधिगम के लिए उपलब्ध अवसरों का वितरण एक महत्वपूर्ण कारक है, जो कतिपय प्रकार के ज्ञान को किस 'महत्व' के साथ अनुभव किया जाता है और उसके प्रभाव को माना जाता है, जिससे दोनों को शैक्षिक सामग्री में प्रतिनिधित्व दिया जाएगा, को प्रभावित करता है। हम यह हल्के में ले सकते हैं कि समूहों के लिए प्रासंगिक या उनसे संबंधित ज्ञान तक उनकी कम पहुँच को विद्यालयों में शिक्षण के योग्य नहीं माना जाएगा। जनजातीय लोगों ने एक लंबे समय तक मध्य भारत के जंगलों में पशु व्यवहार और औषधीय पौधों के बारे में ज्ञान प्राप्त किया, उसको शैक्षिक ज्ञान के रूप में उपयोगी माने जाने की संभावना नहीं है। जनजातीय बच्चों की शिक्षा के अवसरों तक कम पहुँच है और उनके द्वारा विद्यालयों में बहुत अच्छे कार्य-प्रदर्शन की संभावनाएँ बहुत कम हैं जिसका आंशिक कारण यह है कि विद्यालय की पाठ्यचर्या में जनजातीय जीवन का संस्पदन नहीं पाया जाता है।

शिक्षण की पद्धति कैसे शिक्षण की प्रकृति को प्रभावित करती है इसे विज्ञान के शिक्षण में देखा जा सकता है। विद्यालय के एक विषय के रूप में विज्ञान की विशिष्टता शिक्षार्थी द्वारा प्रयोग आवश्यकता सर्वप्रथम आती है। एक विषय के रूप में विज्ञान के लिए शिक्षार्थी द्वारा प्रयोग और स्वतंत्र जांच-पड़ताल करना अत्यावश्यक है, इसलिए विज्ञान को निर्णय की स्वतंत्रता और वस्तुनिष्ठ तथ्यों की उपस्थिति में विद्यार्थी एवं शिक्षक के बीच समानता के साथ जोड़ा जाता है। विज्ञान की शिक्षा को धर्म निरपेक्षता के मूल्यों के अनुरूप इसलिए माना जाता है क्योंकि यह उत्तरदायी सत्ता को अनावश्यक बनाती है। यदि विज्ञान को पाठ्य-पुस्तक के प्राधिकार और शिक्षक के शब्द के साथ तथा प्रयोग के अवसर के बिना एक पारम्परिक तरीके से पढ़ाया जाना है तो पारम्परिक शिक्षा शास्त्रों के कारण इसकी धर्म निरपेक्ष प्रकृति समाप्त हो जाएगी, जिससे विज्ञान कक्षा और समाज में सत्तावादी नियंत्रण का आसानी से एक साधन बन जाएगा। समानता या खुले तौर पर प्रश्न करने की अनुमति न देने वाले वातावरण में विज्ञान का कार्य विद्यार्थियों को उन मूल्यों को आत्मसात करने का मार्ग प्रशस्त कर सकता है, जो विज्ञान के प्रति अनैतिक हैं। इसके अतिरिक्त, यदि शक्तिहीन सामाजिक समूहों की दृष्टि से विज्ञान की विषयवस्तु और शिक्षण की पद्धति को पुनर्गठित नहीं किया जाता है तो विज्ञान आधिपत्य की प्रचलित संरचनाओं का पुनर्बलन कर सकता है। शिक्षण की पद्धतियों से न केवल शिक्षण की प्रकृति, बल्कि विषयवस्तु का परिमाण भी प्रभावित होता है।

Sub questions

Question Number : 26 Question Id : 68634049540 Question Type : MCQ Option Shuffling : No Is Question Mandatory : No Calculator : None Response Time : N.A Think Time : N.A Minimum Instruction Time : 0

Correct Marks : 4 Wrong Marks : 1

उपयुक्त गद्यांश के अनुसार वह कौनसा कारक है, जो ज्ञान के एक विशेष प्रकार के महत्व को निर्धारित करता है?

1. धन- सम्पत्ति तक पहुँच
2. सांस्कृतिक पृष्ठभूमि और विशेषता
3. शैक्षिक अवसरों तक पहुँच
4. राजनीतिक वंश

Options :

686340195701. 1
686340195702. 2
686340195703. 3
686340195704. 4

Question Number : 27 Question Id : 68634049541 Question Type : MCQ Option Shuffling : No Is Question Mandatory : No Calculator : None Response Time : N.A Think Time : N.A Minimum Instruction Time : 0 Correct Marks : 4 Wrong Marks : 1

विज्ञान की शिक्षा के बारे में निम्नलिखित में से कौन सा कथन गलत है?

1. सीमांत समूहों की दृष्टि से विज्ञान की शिक्षा को पुनर्गठित किया जाना चाहिए।
2. विज्ञान समाज में सत्तावादी नियंत्रण का एक साधन बन सकता है।
3. कक्षा में खुले तौर पर प्रश्न न करने से अवैज्ञानिक मूल्यों को मन में बैठाने का मार्ग प्रशस्त हो सकता है।
4. विज्ञान की शिक्षा धर्म निरपेक्षता के मूल्यों के विरुद्ध होनी चाहिए, जिसमें निर्णय के लिए कोई गुंजाइश नहीं छोड़ी जाए।

Options :

- 686340195705. 1
- 686340195706. 2
- 686340195707. 3
- 686340195708. 4

Question Number : 28 Question Id : 68634049542 Question Type : MCQ Option Shuffling : No Is Question Mandatory : No Calculator : None Response Time : N.A Think Time : N.A Minimum Instruction Time : 0 Correct Marks : 4 Wrong Marks : 1

विज्ञान के शिक्षण में निम्नलिखित में से कौनसे निर्णायक तत्व हैं ?

- A. जांच-पड़ताल
- B. प्रदत्त प्राधिकार
- C. पाठ्य- पुस्तकें
- D. प्रयोग

नीचे दिए गए विकल्पों में से **सही उत्तर** का चयन कीजिए:

1. A और B
2. A और D
3. A, B और D
4. B, C और D

Options :

- 686340195709. 1
- 686340195710. 2
- 686340195711. 3
- 686340195712. 4

Question Number : 29 Question Id : 68634049543 Question Type : MCQ Option Shuffling : No Is Question Mandatory : No Calculator : None Response Time : N.A Think Time : N.A Minimum Instruction Time : 0 Correct Marks : 4 Wrong Marks : 1

उपर्युक्त गद्दांश के अनुसार निम्नलिखित सूची से उन पक्षों की पहचान कीजिए, जो शिक्षण की पद्धतियों, से प्रभावित हो सकते हैं?

- A. दिए जाने वाले शिक्षण की प्रकृति
- B. विषयवस्तु का परिमाण
- C. ज्ञान के अवयव
- D. उर्ध्वगामी गतिशीलता

नीचे दिए गए विकल्पों में से **सही उत्तर** का चयन कीजिए:

- 1. A और B
- 2. A, B और D
- 3. B, C और D
- 4. B और D

Options :

- 686340195713. 1
- 686340195714. 2
- 686340195715. 3
- 686340195716. 4

Question Number : 30 Question Id : 68634049544 Question Type : MCQ Option Shuffling : No Is Question Mandatory : No Calculator : None Response Time : N.A Think Time : N.A Minimum Instruction Time : 0 Correct Marks : 4 Wrong Marks : 1

नीचे दो कथन दिए गए हैं, एक **अभिकथन A** के रूप में लिखित है तो दूसरा उसके **कारण R** के रूप में

अभिकथन A: विश्व की रचनाओं के बैगा मिथ (जनजातीय मिथक) के ज्ञान को उपयोगी शैक्षिक ज्ञान माना जाएगा।

कारण R: पाठ्यचर्या में बैगा (जनजातीय) अनुभव वर्तमान प्रतिस्पर्धात्मक समाज में उनके कार्य-प्रदर्शन (निष्पादन) पर निर्भर करता है।

उपरोक्त कथन के आलोक में, नीचे दिए गए विकल्पों में से सबसे उपयुक्त उत्तर का चयन कीजिए

- 1. **A** और **R** दोनों सही हैं और **R, A** की सही व्याख्या हैं
- 2. **A** और **R** दोनों सही हैं और **R, A** की सही व्याख्या नहीं हैं
- 3. **A** सही है लेकिन **R** सही नहीं है
- 4. **A** सही नहीं है लेकिन **R** सही है

Options :

- 686340195717. 1
- 686340195718. 2
- 686340195719. 3
- 686340195720. 4

Sub-Section Number :

Sub-Section Id : 6863401614
Question Shuffling Allowed : No
Is Section Default? : null

Question Id : 68634049545 Question Type : COMPREHENSION Sub Question Shuffling Allowed : Yes Group Comprehension Questions : No Question Pattern Type : NonMatrix Calculator : None Response Time : N.A Think Time : N.A Minimum Instruction Time : 0

Question Numbers : (31 to 35)

Question Label : Comprehension

Based on the Passage given answer the questions.

It is a great pity that our primary schools do not have a separate period for storytelling for the first two grades each day. Such a provision would have solved at least a part of the problem we face in retaining children at school. Many will say that I am giving undue importance to this problem. Storytelling has a magical effect on children. I should like to imagine the day when anyone who wants to teach young children will be required to master at least thirty traditional stories. By 'Master' I mean: to know the stories by heart, so one can tell them in a relaxed, confident manner. That is hardly a tall order for a society that has inherited thousands of stories from its past. Thirty stories that the teacher can tell at will can transform the ethos of the first two years of primary schooling. The daily curriculum must find an honourable place for story telling for its own sake.

Stories that have come down to us from traditional have a special set of characteristics that contemporary stories presented in different forms and in the media do not necessarily possess. The Panchatantra, the Jatakas, the Mahabharata, the Arabian Nights, stories of Vikramaditya, and folktales from different regions come to mind as ready and rich sources. Similarly Kathasaritsagar, the Gulistan and the Boston, the Birbal stories. Similarly folktales and fairytales from round the world. Anyone who wants to introduce storytelling as a regular feature of the curriculum must ensure access to a selection of stories from these resources. Storytelling deserves to be seen as a civilisational practice which permits us to protect the diversity of cultural experiences and stances from the homogenising effects of modern education and media. Storytelling also needs to be celebrated as an oral heritage, in the obvious sense that its aesthetic merits and appeal evolved by means of oral communication and memory, as well as with reference to the oral competence that storytelling as an everyday practice calls for.

Sub questions

Question Number : 31 Question Id : 68634049546 Question Type : MCQ Option Shuffling : No Is Question Mandatory : No Calculator : None Response Time : N.A Think Time : N.A Minimum Instruction Time : 0

Correct Marks : 4 Wrong Marks : 1

Why does the writer prefer traditional stories?

1. Traditional stories promote indigenous values
2. They promote cultural diversity of the sub-continent
3. They homogenise ideas of morality and ethics
4. They can easily be communicated orally in contrast to comics

Options :

686340195721. 1

686340195722. 2

686340195723. 3

686340195724. 4

Question Number : 32 Question Id : 68634049547 Question Type : MCQ Option Shuffling : No Is Question Mandatory : No Calculator : None Response Time : N.A Think Time : N.A Minimum Instruction Time : 0 Correct Marks : 4 Wrong Marks : 1

According to the author, stories can

1. entertain children
2. teach magic
3. teach them to value their heritage
4. make them practice things everyday

Options :

686340195725. 1

686340195726. 2

686340195727. 3

686340195728. 4

Question Number : 33 Question Id : 68634049548 Question Type : MCQ Option Shuffling : No Is Question Mandatory : No Calculator : None Response Time : N.A Think Time : N.A Minimum Instruction Time : 0 Correct Marks : 4 Wrong Marks : 1

Which of the following is the necessary condition for storytelling to transform the early years of primary schooling?

1. It must be made a core component of the daily curriculum
2. Identifying at least thirty traditional stories
3. Teachers should be trained for storytelling
4. Administrators and politicians must lobby for its inclusion

Options :

686340195729. 1

686340195730. 2

686340195731. 3

686340195732. 4

Question Number : 34 Question Id : 68634049549 Question Type : MCQ Option Shuffling : No Is Question Mandatory : No Calculator : None Response Time : N.A Think Time : N.A Minimum Instruction Time : 0 Correct Marks : 4 Wrong Marks : 1

Given below are two statements: one is labelled as **Assertion A** and the other is labelled as **Reason R**

Assertion A: Primary teachers should memorise the traditional stories

Reason R: Storytelling must be done in a relaxed and confident manner

In the light of the above statements, choose the *most appropriate answer* from the options given below.

1. Both **A** and **R** are correct and **R** is the correct explanation of **A**
2. Both **A** and **R** are correct and **R** is **NOT** the correct explanation of **A**
3. **A** is correct but **R** is not correct
4. **A** is not correct but **R** is correct

Options :

- 686340195733. 1
- 686340195734. 2
- 686340195735. 3
- 686340195736. 4

Question Number : 35 Question Id : 68634049550 Question Type : MCQ Option Shuffling : No Is Question Mandatory : No Calculator : None Response Time : N.A Think Time : N.A Minimum Instruction Time : 0

Correct Marks : 4 Wrong Marks : 1

Why should storytelling be introduced in schools?

- A. Storytelling stirs children's imagination and fascinates them
- B. Storytelling improves oral comprehension
- C. Oral heritage can be celebrated through storytelling

Choose the **correct answer** from the options given below:

1. A only
2. C only
3. A and C only
4. A, B and C only

Options :

- 686340195737. 1
- 686340195738. 2
- 686340195739. 3
- 686340195740. 4

Question Id : 68634049545 Question Type : COMPREHENSION Sub Question Shuffling Allowed : Yes Group Comprehension Questions : No Question Pattern Type : NonMatrix Calculator : None Response Time : N.A Think Time : N.A Minimum Instruction Time : 0

Question Numbers : (31 to 35)

Question Label : Comprehension

निम्नलिखित गद्यांश को पढ़ें और इसके आधार पर प्रश्नों के उत्तर दीजिए।

यह अत्यंत खेदजनक है कि हमारे प्राथमिक विद्यालयों में प्रथम दो ग्रेड्स (पहली और दूसरी कक्षा) में प्रतिदिन कहानी कहने सुनाने के लिए एक पृथक पीरियड (कालांश) नहीं होता है। इस प्रकार की व्यवस्था करने से न्यून रूप से उस समस्या के एक अंश का समाधान हो गया होता जिसमें हम विद्यार्थियों को शिक्षा देने के लिए उन्हें विद्यालय में बनाए रखने की समस्या का सामना करते हैं। अनेक लोग कहेंगे कि मैं इस समस्या को अनावश्यक महत्व दे रहा हूँ। मुझे उस दिन की कल्पना करनी चाहिए जब बच्चों को पढ़ाने के किसी भी इच्छुक व्यक्ति के लिए कम से कम तीस पारम्परिक कहानियों में सिद्धहस्त होना आवश्यक होगा। सिद्धहस्त होने से मेरा तात्पर्य यह है कि वह कहानियों के मर्म से भिन्न हो ताकि वह सहज एवं आत्मविश्वासी होकर उसे सुना/बता सके। यह एक उस समाज के लिए कतई असंभव व्यवस्था नहीं है, जिसने अपने अतीत से विरासत/धरोहर में हजारों कहानियाँ प्राप्त की हैं। शिक्षक अपनी इच्छा से तीस कहानियाँ कह सकता है, जिससे प्राथमिक विद्यालय की शिक्षा के प्रथम दो वर्षों का लोकाचार रूपांतरित हो सकता है। दैनिक पाठ्यचर्या को अपने स्वयं के हित में कहानी कहने/सुनाने के लिए एक सम्मानजनक स्थान प्राप्त करना होगा।

परंपरा से हमें प्राप्त होने वाली कहानियों की विशेषताओं का एक विशिष्ट समूह है, जिनका भिन्न रूपों में और मीडिया में प्रस्तुत की गई कहानियों के लिए अधिकृत होना आवश्यक नहीं है। पंचतंत्र, जातक कहानियाँ, महाभारत, द अरेबियन नाइट्स, विक्रमादित्य की कहानियाँ और विभिन्न क्षेत्रों की लोक कथाएँ हमारे मानस में तत्काल और समृद्ध स्त्रोत के रूप में आती हैं। इसी प्रकार, कथासरितसागर द गुलिस्तान एवं बीरबल की कहानियाँ और विश्व भर की लोककथाएँ तथा तथा परीकथाएँ हैं। पाठ्यचर्या में एक नियमित विशेषता के रूप में कहानी कहना / सुनाना आरंभ करने के प्रत्येक इच्छुक व्यक्ति को इन स्रोतों से कहानियों के चयन तक पहुंच सुनिश्चित करनी होगी। कहानी कहने को एक उस सभ्यतागत प्रथा के रूप में योग्य समझना चाहिए, जो हमें आधुनिक शिक्षा एवं मीडिया के समरूपी प्रभावों के सांस्कृतिक अनुभवों की विविधता और अवस्थितियों के संरक्षण की अनुमति देता है। कहनी सुनाने / कहने की इस स्पष्ट अनुभूति में एक मौखिक धरोहर के रूप में उत्सव मनाया जाना चाहिए कि मौखिक सम्प्रेषण एवं स्मृति के साधनों से विकसित उसके सौंदर्यपरक गुणों एवं आकर्षण के साथ-साथ मौखिक सक्षमता के संदर्भ में कहानी सुनाने / कहने को प्रतिदिन की प्रथा बनाना आवश्यक है।

Sub questions

Question Number : 31 Question Id : 68634049546 Question Type : MCQ Option Shuffling : No Is Question Mandatory : No Calculator : None Response Time : N.A Think Time : N.A Minimum Instruction Time : 0 Correct Marks : 4 Wrong Marks : 1

उपर्युक्त गद्यांश का लेखक पारम्परिक कहानियों को क्यों वरीयता प्रदान करता है?

1. पारम्परिक कहानियाँ देशज मूल्यों को प्रोस्ताहित करती हैं
2. ये उपमहाद्विप की सांस्कृतिक विविधता को प्रोस्ताहित करती हैं
3. ये नैतिकता और नीतिपरकता के विचारों का तादात्म्य बिठाता है
4. इनका कॉमिक्स के विपरीत मौखिक रूप से आसानी से सम्प्रेषण किया जा सकता है

Options :

686340195721. 1
686340195722. 2
686340195723. 3
686340195724. 4

Question Number : 32 Question Id : 68634049547 Question Type : MCQ Option Shuffling : No Is Question Mandatory : No Calculator : None Response Time : N.A Think Time : N.A Minimum Instruction Time : 0 Correct Marks : 4 Wrong Marks : 1

उपर्युक्त गद्दांश के लेखक के अनुसार कहानियाँ:

1. बच्चों का मनोरंजन कर सकती हैं
2. जादु सिखा सकती हैं
3. उन्हें अपनी घरोहर को महत्व (सम्मान) देना सिखा सकती हैं
4. उन्हें प्रतिदिन चीजों का अभ्यास कराती हैं

Options :

686340195725. 1
686340195726. 2
686340195727. 3
686340195728. 4

Question Number : 33 Question Id : 68634049548 Question Type : MCQ Option Shuffling : No Is Question Mandatory : No Calculator : None Response Time : N.A Think Time : N.A Minimum Instruction Time : 0 Correct Marks : 4 Wrong Marks : 1

प्राथमिक विद्यालय की शिक्षा के प्रारंभिक वर्षों में रूपांतरण के संबंध में कहानी सुनाने / कहने के लिए निम्नलिखित में से कौनसी आवश्यक शर्त है?

1. इसे दैनिक पाठ्यचर्या का एक मूल घटक बनाना होगा
2. न्यून रूप से तीस पारम्परिक कहानियों की पहचान करना
3. शिक्षकों को कहानी कहने के बारे में प्रशिक्षित किया जाना चाहिए
4. प्रशासकों और राजनेताओं को इसके समावेशन के लिए लॉबी करनी चाहिए

Options :

686340195729. 1
686340195730. 2
686340195731. 3
686340195732. 4

Question Number : 34 Question Id : 68634049549 Question Type : MCQ Option Shuffling : No Is Question Mandatory : No Calculator : None Response Time : N.A Think Time : N.A Minimum Instruction Time : 0 Correct Marks : 4 Wrong Marks : 1

नीचे दो कथन दिए गए हैं, एक **अभिकथन A** के रूप में लिखित है तो दूसरा उसके कारण **R** के रूप में

अभिकथन A: प्राथमिक विद्यालय के शिक्षकों को पारम्परिक कहानियां कंठस्थ करनी चाहिए।

कारण R: एक सहज और आत्मविश्वासी ढंग में कहानी कहना / सुनाना चाहिए।

उपरोक्त कथन के आलोक में, नीचे दिए गए विकल्पों में से सबसे उपयुक्त उत्तर का चयन कीजिए

1. **A** और **R** दोनों सही हैं और **R, A** की सही व्याख्या हैं
2. **A** और **R** दोनों सही हैं और **R, A** की सही व्याख्या नहीं हैं
3. **A** सही है लेकिन **R** सही नहीं है
4. **A** सही नहीं है लेकिन **R** सही है

Options :

686340195733. 1
686340195734. 2
686340195735. 3
686340195736. 4

Question Number : 35 Question Id : 68634049550 Question Type : MCQ Option Shuffling : No Is Question Mandatory : No Calculator : None Response Time : N.A Think Time : N.A Minimum Instruction Time : 0

Correct Marks : 4 Wrong Marks : 1

विद्यालय में कहानी कहना (सुनाना) क्यों प्रारंभ किया जाना चाहिए?

- A. कहानी कहने से बच्चों की कल्पना जाग्रत होती है।
- B. कहानी कहने से मौखिक समझ में सुधार आता है।
- C. मौखिक घरोहर का कहानी कहने / सुनाने के माध्यम उत्सव मनाया जा सकता है।

नीचे दिए गए विकल्पों में से **सही उत्तर** का चयन कीजिए:

1. केवल C
2. केवल C
3. A और C
4. A, B और C

Options :

686340195737. 1
686340195738. 2
686340195739. 3
686340195740. 4

Sub-Section Number :

3

Sub-Section Id :

6863401615

Question Shuffling Allowed :

Yes

Is Section Default? :

null

Question Number : 36 Question Id : 68634049551 Question Type : MCQ Option Shuffling : No Is Question Mandatory : No Calculator : None Response Time : N.A Think Time : N.A Minimum Instruction Time : 0 Correct Marks : 4 Wrong Marks : 1

Which of the following teachers would prove to be the best mentor for children?

1. The one who identifies with them and understands their needs
2. The one who has the best artistic skills
3. The one who keeps subject content at the centre
4. The one who has special skills and techniques to teach

Options :

- 686340195741. 1
- 686340195742. 2
- 686340195743. 3
- 686340195744. 4

Question Number : 36 Question Id : 68634049551 Question Type : MCQ Option Shuffling : No Is Question Mandatory : No Calculator : None Response Time : N.A Think Time : N.A Minimum Instruction Time : 0 Correct Marks : 4 Wrong Marks : 1

निम्नलिखित में से कौनसा शिक्षक बच्चों के लिए श्रेष्ठ ज्ञानगुरु (मेंटर) सिद्ध होगा?

1. वह, जो उनको ठीक से पहचानता है और उनकी आवश्यकताओं को समझता है
2. वह जिसके पास श्रेष्ठ कलात्मक कौशल हैं
3. वह, जो विषयवस्तु को केन्द्र में रखता है
4. वह, जिसके पास शिक्षण का विशेष कौशल और प्रविधियाँ हैं

Options :

- 686340195741. 1
- 686340195742. 2
- 686340195743. 3
- 686340195744. 4

Question Number : 37 Question Id : 68634049552 Question Type : MCQ Option Shuffling : No Is Question Mandatory : No Calculator : None Response Time : N.A Think Time : N.A Minimum Instruction Time : 0 Correct Marks : 4 Wrong Marks : 1

What is the status given to English language by the Constitution of India?

1. Link language
2. Official language
3. National language
4. Associate official language

Options :

686340195745. 1
686340195746. 2
686340195747. 3
686340195748. 4

Question Number : 37 Question Id : 68634049552 Question Type : MCQ Option Shuffling : No Is Question Mandatory : No Calculator : None Response Time : N.A Think Time : N.A Minimum Instruction Time : 0

Correct Marks : 4 Wrong Marks : 1

भारत के संविधान द्वारा अंग्रेजी भाषा को क्या प्रस्थिति प्रदान की गई है?

1. लिंक (सम्पर्क) भाषा
2. आधिकारिक भाषा
3. राष्ट्रीय भाषा
4. सह- आधिकारिक भाषा

Options :

686340195745. 1
686340195746. 2
686340195747. 3
686340195748. 4

Question Number : 38 Question Id : 68634049553 Question Type : MCQ Option Shuffling : No Is Question Mandatory : No Calculator : None Response Time : N.A Think Time : N.A Minimum Instruction Time : 0

Correct Marks : 4 Wrong Marks : 1

Museums serve an important purpose ; to put children in a mood to marvel to expect _____ and to prepare them to be ready for them. If a teacher takes the students to museums regularly, they will learn to marvel at things

1. rare experiences
2. several instructions
3. variety of knowledge
4. several things

Options :

- 686340195749. 1
- 686340195750. 2
- 686340195751. 3
- 686340195752. 4

Question Number : 38 Question Id : 68634049553 Question Type : MCQ Option Shuffling : No Is Question Mandatory : No Calculator : None Response Time : N.A Think Time : N.A Minimum Instruction Time : 0 Correct Marks : 4 Wrong Marks : 1

संग्रहालय बच्चों को एक मनोदशा से जिज्ञासा में रखने: _____ की अपेक्षा करने और उसके लिए तत्पर रहने के लिए उन्हें तैयार करने लिए एक महत्वपूर्ण प्रयोजन को पूरा करता है। यदि कोई शिक्षक विद्यार्थियों को नियमित रूप से संग्रहालय में ले जाता है तो वे इन चीजों के प्रति जिज्ञासु बनना सीखेंगे।

1. दुर्लभ अनुभव
2. अनेक अनुदेश
3. ज्ञान का वैविध्य (किस्म)
4. अनेक वस्तुएं

Options :

- 686340195749. 1
- 686340195750. 2
- 686340195751. 3
- 686340195752. 4

Question Number : 39 Question Id : 68634049554 Question Type : MCQ Option Shuffling : No Is Question Mandatory : No Calculator : None Response Time : N.A Think Time : N.A Minimum Instruction Time : 0 Correct Marks : 4 Wrong Marks : 1

Indian women, writing in English in the 19th and early 20th centuries, wrote about their lives and experience in a variety of forms _____ wrote a novel in 1905 titled _____ which is now well known, First written in English and then translated into Bengali, it is a feminist fantasy utopia in which women control the state and men are confined to the mardana.

1. Iqbalunnisa Hussain, Men's Purdah
2. Zeenath Futehalley, Zohra Rules
3. Rokeya Sakhawat Hussain, Sultana's Dream
4. Noor-un-Nissa Inayat Khan; A New State

Options :

- 686340195753. 1
- 686340195754. 2
- 686340195755. 3
- 686340195756. 4

Question Number : 39 Question Id : 68634049554 Question Type : MCQ Option Shuffling : No Is Question Mandatory : No Calculator : None Response Time : N.A Think Time : N.A Minimum Instruction Time : 0 Correct Marks : 4 Wrong Marks : 1

19 वीं और प्रारंभिक 20 वीं शताब्दी में अंग्रेजी भाषा की महिला लेखिकाओं ने दैविध्य रूपों में अपने जीवन और अनुभवों के बारे में लिखा था। _____ ने 1905 में _____ शीर्षक से एक उपन्यास लिखा, जो अब विख्यात है। इसे पहले अंग्रेजी में लिखा गया और उसके बाद उसका बंगाली भाषा में अनुवाद किया गया। इसमें एक नारीवादी फंतासी आदर्श लोक है, जिसमें महिलाएं राज्य को नियंत्रित करती हैं और पुरुष मर्दाना तक सीमित रहते हैं।

1. इकबालुन्निसा हुसैन ; मैन्स पर्दा
2. जीनत फुटहैली; जोहरा रुल्स
3. रोकिया सखावत हुसैन ; सुल्ताना ड्रीम्स
4. नूर-उन-निसा इनायत खान; ए न्यू स्टेट

Options :

- 686340195753. 1
- 686340195754. 2
- 686340195755. 3
- 686340195756. 4

Question Number : 40 Question Id : 68634049555 Question Type : MCQ Option Shuffling : No Is Question Mandatory : No Calculator : None Response Time : N.A Think Time : N.A Minimum Instruction Time : 0 Correct Marks : 4 Wrong Marks : 1

It shall be the endeavor of every state and of every local authority within the state to provide adequate facilities for instruction in the mother tongue at the primary stage of education to children belonging to linguistic minority groups which Article of our Constitution deals with it ?

1. Article 350 A
2. Article 15 A
3. Article 21 A
4. Article 12 A

Options :

- 686340195757. 1
- 686340195758. 2
- 686340195759. 3
- 686340195760. 4

Question Number : 40 Question Id : 68634049555 Question Type : MCQ Option Shuffling : No Is Question Mandatory : No Calculator : None Response Time : N.A Think Time : N.A Minimum Instruction Time : 0 Correct Marks : 4 Wrong Marks : 1

प्रत्येक राज्य और राज्य के भीतर प्रत्येक स्थानीय प्राधिकारी भाषायी अल्पसंख्यक समूहों से संबंधित बच्चों को शिक्षा के प्राथमिक चरण में उनकी मातृभाषा में अनुदेश की पर्याप्त सुविधाएँ प्रदान करने का प्रयास करेंगे। इससे संविधान का कौनसा अनुच्छेद संबंधित है?

1. अनुच्छेद 350 A
2. अनुच्छेद 15 A
3. अनुच्छेद 21 A
4. अनुच्छेद 12 A

Options :

686340195757. 1
686340195758. 2
686340195759. 3
686340195760. 4

Question Number : 41 Question Id : 68634049556 Question Type : MCQ Option Shuffling : No Is Question Mandatory : No Calculator : None Response Time : N.A Think Time : N.A Minimum Instruction Time : 0 Correct Marks : 4 Wrong Marks : 1

In his short story Bade Bhai Saheb, Prem Chand has offered a critique of colonial education? Which of the following reflects his critical views ?

1. Colonial education was inspired by French ideals
2. Colonial education has no space for Tabla
3. Colonial education was not accessible to his sister
4. Colonial education involved mindless mugging up

Options :

686340195761. 1
686340195762. 2
686340195763. 3
686340195764. 4

Question Number : 41 Question Id : 68634049556 Question Type : MCQ Option Shuffling : No Is Question Mandatory : No Calculator : None Response Time : N.A Think Time : N.A Minimum Instruction Time : 0 Correct Marks : 4 Wrong Marks : 1

प्रेमचंद ने अपनी लघु कथा 'बड़े भाई साहब' में औपनिवेशिक शिक्षा की आलोचना प्रस्तुत की है। निम्नलिखित में से कौन सा कथन उनके आलोचनात्मक विचारों को प्रतिबिंबित करता है।

1. औपनिवेशिक शिक्षा फ्रांसीसी आदर्शों से प्रेरित थी।
2. औपनिवेशिक शिक्षा में तबला को कोई स्थान नहीं दिया गया था।
3. औपनिवेशिक शिक्षा उनकी बहन को सुलभ नहीं थी।
4. औपनिवेशिक शिक्षा में बुद्धि का उपयोग किए बिना पाठ को रटना शामिल था।

Options :

- 686340195761. 1
- 686340195762. 2
- 686340195763. 3
- 686340195764. 4

Question Number : 42 Question Id : 68634049557 Question Type : MCQ Option Shuffling : No Is Question Mandatory : No Calculator : None Response Time : N.A Think Time : N.A Minimum Instruction Time : 0

Correct Marks : 4 Wrong Marks : 1

The UN convention on the Rights of the Child (CRC) which requires the state to protect the child from

1. all forms of abuse, harassment and struggle
2. all forms of violence, torture and degrading punishment
3. all forms of violence , abuse and school punishment
4. all forms of harassment, torture and struggle

Options :

- 686340195765. 1
- 686340195766. 2
- 686340195767. 3
- 686340195768. 4

Question Number : 42 Question Id : 68634049557 Question Type : MCQ Option Shuffling : No Is Question Mandatory : No Calculator : None Response Time : N.A Think Time : N.A Minimum Instruction Time : 0

Correct Marks : 4 Wrong Marks : 1

संयुक्त राष्ट्र के बालक के अधिकारों पर अतिसमय (सी. आर. सी) में राज्य के लिए बालक का किससे संरक्षण करना आवश्यक है।

1. दुर्व्यवहार, उत्पीड़न और संघर्ष के सभी रूप
2. हिंसा, यंत्रणा और अमानवोचित दण्ड के सभी रूप
3. हिंसा, दुर्व्यवहार और विद्यालय में दण्ड के सभी रूप
4. उत्पीड़न, यंत्रणा और संघर्ष के सभी रूप

Options :

686340195765. 1
686340195766. 2
686340195767. 3
686340195768. 4

Question Number : 43 Question Id : 68634049558 Question Type : MCQ Option Shuffling : No Is Question Mandatory : No Calculator : None Response Time : N.A Think Time : N.A Minimum Instruction Time : 0 Correct Marks : 4 Wrong Marks : 1

What is the central theme of the 19th century Malyalam novel 'Saraswati Vijayand'?

1. Emancepative potential of caste reform movements
2. Caste reform movements under Moplah Revolt
3. Emancepative potential of the colonial education
4. Caste reform movements during colonial period

Options :

686340195769. 1
686340195770. 2
686340195771. 3
686340195772. 4

Question Number : 43 Question Id : 68634049558 Question Type : MCQ Option Shuffling : No Is Question Mandatory : No Calculator : None Response Time : N.A Think Time : N.A Minimum Instruction Time : 0 Correct Marks : 4 Wrong Marks : 1

19 वीं शताब्दी के मलयालम उपन्यास- 'सरस्वती विजयम्' का मूल विषय क्या है?

1. जाति सुधार आंदोलनों का मुक्तिदायी संभाव्य
2. मोप्लाह विद्रोह के अंतर्गत जाति सुधार आंदोलन
3. औपनिवेशिक शिक्षा का मुक्तिदायी संभाव्य
4. औपनिवेशिक काल के दौरान जाति सुधार आंदोलन

Options :

- 686340195769. 1
- 686340195770. 2
- 686340195771. 3
- 686340195772. 4

Question Number : 44 Question Id : 68634049559 Question Type : MCQ Option Shuffling : No Is Question Mandatory : No Calculator : None Response Time : N.A Think Time : N.A Minimum Instruction Time : 0 Correct Marks : 4 Wrong Marks : 1

Given below are two statements: one is labelled as **Assertion A** and the other is labelled as **Reason R**

Assertion A:The government has implemented the scheme for providing quality education in madarasas (SPQEM), to provide equal opportunity to minorities in access to modern education for children

Reason R:The facilities of educational training in the area of engineering and technology have therefore been emended systematically.

In the light of the above statements, choose the *most appropriate answer* from the options given below.

1. Both **A** and **R** are correct and **R** is the correct explanation of **A**
2. Both **A** and **R** are correct and **R** is **NOT** the correct explanation of **A**
3. **A** is correct but **R** is not correct
4. **A** is not correct but **R** is correct

Options :

- 686340195773. 1
- 686340195774. 2
- 686340195775. 3
- 686340195776. 4

Question Number : 44 Question Id : 68634049559 Question Type : MCQ Option Shuffling : No Is Question Mandatory : No Calculator : None Response Time : N.A Think Time : N.A Minimum Instruction Time : 0 Correct Marks : 4 Wrong Marks : 1

नीचे दो कथन दिए गए हैं, एक **अभिकथन A** के रूप में लिखित है तो दूसरा उसके **कारण R** के रूप में

अभिकथन A: सरकार ने बच्चों की आधुनिक शिक्षा तक पहुंच के उद्देश्य से अल्पसंख्यक वर्ग को समान अवसर देने के संबंध में मदरसों में गुणावत्तापरक शिक्षा प्रदान करने की योजना को कार्यान्वित किया है।

कारण R: इसलिए, इंजीनियरिंग और प्रौद्योगिकी के क्षेत्र में शैक्षिक प्रशिक्षण की सुविधाओं को व्यवस्थित रूप से संशोधन किया गया है।

उपरोक्त कथन के आलोक में, नीचे दिए गए विकल्पों में से सबसे उपयुक्त उत्तर का चयन कीजिए

1. **A** और **R** दोनों सही हैं और **R, A** की सही व्याख्या हैं
2. **A** और **R** दोनों सही हैं और **R, A** की सही व्याख्या नहीं हैं
3. **A** सही है लेकिन **R** सही नहीं है
4. **A** सही नहीं है लेकिन **R** सही है

Options :

686340195773. 1

686340195774. 2

686340195775. 3

686340195776. 4

Question Number : 45 Question Id : 68634049560 Question Type : MCQ Option Shuffling : No Is Question Mandatory : No Calculator : None Response Time : N.A Think Time : N.A Minimum Instruction Time : 0

Correct Marks : 4 Wrong Marks : 1

The slogan 'SATYAMEV JAYATE' was widely popularised by whom ?

1. Bal Gangadhar Tilak
2. Subhash Chandra Bose
3. Madan Mohan Malviya
4. Ram Prasad Bismil

Options :

686340195777. 1

686340195778. 2

686340195779. 3

686340195780. 4

Question Number : 45 Question Id : 68634049560 Question Type : MCQ Option Shuffling : No Is Question Mandatory : No Calculator : None Response Time : N.A Think Time : N.A Minimum Instruction Time : 0

Correct Marks : 4 Wrong Marks : 1

किसने 'सत्यमेव जयते' स्लोगन (नारे) को व्यापक रूप से लोकप्रिय बनाया था?

1. बाल गंगाधर तिलक
2. सुभाष चंद्र बोस
3. मदन मोहन मालवीय
4. राम प्रसाद बिस्मिल

Options :

686340195777. 1
686340195778. 2
686340195779. 3
686340195780. 4

Question Number : 46 Question Id : 68634049561 Question Type : MCQ Option Shuffling : No Is Question Mandatory : No Calculator : None Response Time : N.A Think Time : N.A Minimum Instruction Time : 0

Correct Marks : 4 Wrong Marks : 1

"Wardha Scheme of Basic Education" was also known as _____

1. New Scheme of independent India
2. New India Education Scheme
3. New Era Education Policy
4. Nai Taleem

Options :

686340195781. 1
686340195782. 2
686340195783. 3
686340195784. 4

Question Number : 46 Question Id : 68634049561 Question Type : MCQ Option Shuffling : No Is Question Mandatory : No Calculator : None Response Time : N.A Think Time : N.A Minimum Instruction Time : 0

Correct Marks : 4 Wrong Marks : 1

'मूल शिक्षा की वर्धा ,योजना' को किस अन्य रूप में भी जाना जाता है?

1. स्वतंत्र भारत की नई योजना
2. नव- भारत शिक्षा योजना
3. नव- युग शिक्षा नीति
4. नई तालीम

Options :

686340195781. 1

686340195782. 2

686340195783. 3

686340195784. 4

Question Number : 47 Question Id : 68634049562 Question Type : MCQ Option Shuffling : No Is Question Mandatory : No Calculator : None Response Time : N.A Think Time : N.A Minimum Instruction Time : 0

Correct Marks : 4 Wrong Marks : 1

Dysgraphia is a type of learning disability in which learner faces difficulty in _____

1. performing accurate maths calculations and learning number related concepts
2. Constructing meaningful and effectively structured expressive writing
3. Recalling words, names, numbers etc
4. Reading , writing, spelling

Options :

686340195785. 1

686340195786. 2

686340195787. 3

686340195788. 4

Question Number : 47 Question Id : 68634049562 Question Type : MCQ Option Shuffling : No Is Question Mandatory : No Calculator : None Response Time : N.A Think Time : N.A Minimum Instruction Time : 0

Correct Marks : 4 Wrong Marks : 1

'सिस्राफिया' अधिगम निःशक्तता का एक प्रकार है, जिसमें शिक्षार्थी किसमें कठिनाई का सामना करता है?

1. गणित के यथार्थ परिकलनों का प्रदर्शन करने और अधिगम संख्या संबंधित अवधारणाओं में
2. सार्थक और प्राभावी रूप से संरचित अभिव्यक्तात्मक लेखन की रचना करने में
3. शब्दों, नामों, सदस्यों आदि का स्मरण करने में
4. पठन, लेखन, वर्तनी में

Options :

686340195785. 1

686340195786. 2

686340195787. 3

686340195788. 4

Question Number : 48 Question Id : 68634049563 Question Type : MCQ Option Shuffling : No Is Question Mandatory : No Calculator : None Response Time : N.A Think Time : N.A Minimum Instruction Time : 0

Correct Marks : 4 Wrong Marks : 1

Scheme for Higher education youth in Apprenticeship and skills (SHREYAS) is a scheme of Government of India for graduate students to get:

1. Teacher Training
2. Vocational Training
3. Industrial Training
4. Counseling Training

Options :

- 686340195789. 1
- 686340195790. 2
- 686340195791. 3
- 686340195792. 4

Question Number : 48 Question Id : 68634049563 Question Type : MCQ Option Shuffling : No Is Question Mandatory : No Calculator : None Response Time : N.A Think Time : N.A Minimum Instruction Time : 0 Correct Marks : 4 Wrong Marks : 1

स्कीम फॉर हायर एजुकेशन यूथ एप्रेंटिसिप एंड स्किल्स (SHREYAS) भारत सरकार की एक योजना है, जो स्नातक विद्यार्थियों के क्या प्राप्त करने के लिए है?

1. शिक्षण प्रशिक्षण
2. व्यवसायिक प्रशिक्षण
3. औद्योगिक प्रशिक्षण
4. परामर्शी प्रशिक्षण

Options :

- 686340195789. 1
- 686340195790. 2
- 686340195791. 3
- 686340195792. 4

Question Number : 49 Question Id : 68634049564 Question Type : MCQ Option Shuffling : No Is Question Mandatory : No Calculator : None Response Time : N.A Think Time : N.A Minimum Instruction Time : 0 Correct Marks : 4 Wrong Marks : 1

'India wins freedom' was authored by:-

1. Mahatma Gandhi
2. Pt. Jawaharlal Nehru
3. Rabindranath Tagore
4. Abdul Kalam Azad

Options :

- 686340195793. 1
- 686340195794. 2
- 686340195795. 3
- 686340195796. 4

Question Number : 49 Question Id : 68634049564 Question Type : MCQ Option Shuffling : No Is Question Mandatory : No Calculator : None Response Time : N.A Think Time : N.A Minimum Instruction Time : 0 Correct Marks : 4 Wrong Marks : 1

'इंडिया विन्स फ्रीडम' के लेखक कौन हैं?

- 1. महात्मा गांधी
- 2. पंडित जवाहरलाल नेहरू
- 3. रबीन्द्र नाथ टैगोर
- 4. अब्दुल कलाम आज़ाद

Options :

- 686340195793. 1
- 686340195794. 2
- 686340195795. 3
- 686340195796. 4

Question Number : 50 Question Id : 68634049565 Question Type : MCQ Option Shuffling : No Is Question Mandatory : No Calculator : None Response Time : N.A Think Time : N.A Minimum Instruction Time : 0 Correct Marks : 4 Wrong Marks : 1

Given below are two statements: one is labelled as **Assertion A** and the other is labelled as **Reason R**

Assertion A: Total enrolment in secondary and higher secondary stages increased correspondingly from 1.5 million in 1950-51 to over 50 millions in 2015-16

Reason R: Total enrolment in higher education has been estimated to be less than 30 million

In the light of the above statements, choose the most appropriate answer from the options given below.

- 1. Both **A** and **R** are true and **R** is the correct explanation of **A**
- 2. Both **A** and **R** are true but **R** is **NOT** the correct explanation of **A**
- 3. **A** is true but **R** is false
- 4. **A** is false but **R** is true

Options :

- 686340195797. 1
- 686340195798. 2
- 686340195799. 3
- 686340195800. 4

Question Number : 50 Question Id : 68634049565 Question Type : MCQ Option Shuffling : No Is Question Mandatory : No Calculator : None Response Time : N.A Think Time : N.A Minimum Instruction Time : 0

Correct Marks : 4 Wrong Marks : 1

नीचे दो कथन दिए गए हैं, एक **अभिकथन A** के रूप में लिखित है तो दूसरा उसके **कारण R** के रूप में

अभिकथन A: सेकंडरी एवं उच्च माध्यमिक तथा उच्चतर माध्यमिक के चरणों में 1950-51 में कुल नामांकन 1.5 मिलियन था जो 2015-16 में तदनुरूप से बढ़ कर 50 मिलियन से भी अधिक हो गया।

कारण R: उच्च शिक्षा में कुल नामांकन 30 मिलियन से कम का अनुमान किया गया है।

उपरोक्त कथन के आलोक में, नीचे दिए गए विकल्पों में से सबसे उपयुक्त उत्तर का चयन कीजिए

1. **A** और **R** दोनों सही हैं और **R, A** की सही व्याख्या हैं
2. **A** और **R** दोनों सही हैं और **R, A** की सही व्याख्या नहीं हैं
3. **A** सही है लेकिन **R** सही नहीं है
4. **A** सही नहीं है लेकिन **R** सही है

Options :

686340195797. 1

686340195798. 2

686340195799. 3

686340195800. 4

Question Number : 51 Question Id : 68634049566 Question Type : MCQ Option Shuffling : No Is Question Mandatory : No Calculator : None Response Time : N.A Think Time : N.A Minimum Instruction Time : 0

Correct Marks : 4 Wrong Marks : 1

In Upanishad, the Sanskrit texts of Hindu Philosophy, a dialogue between a young boy and a powerful god of death has been presented. This creative dialogue has been presented in

1. Ken-upanishad
2. Prashna-upanishad
3. Katna-upanishad
4. Mandukya-upanishad

Options :

686340195801. 1

686340195802. 2

686340195803. 3

686340195804. 4

Question Number : 51 Question Id : 68634049566 Question Type : MCQ Option Shuffling : No Is Question Mandatory : No Calculator : None Response Time : N.A Think Time : N.A Minimum Instruction Time : 0

Correct Marks : 4 Wrong Marks : 1

हिन्दु दर्शन के संस्कृत ग्रंथ उपनिषद् में एक लड़के और मृत्यु के एक शक्तिशाली देवता के बीच एक संवाद प्रस्तुत किया गया है। इस सर्जनात्मक संवाद को किसमें प्रस्तुत किया गया है।

1. केन- उपनिषद्
2. प्रश्न - उपनिषद्
3. कठ- उपनिषद्
4. माण्डूक्य- उपनिषद्

Options :

686340195801. 1
686340195802. 2
686340195803. 3
686340195804. 4

Question Number : 52 Question Id : 68634049567 Question Type : MCQ Option Shuffling : No Is Question Mandatory : No Calculator : None Response Time : N.A Think Time : N.A Minimum Instruction Time : 0 Correct Marks : 4 Wrong Marks : 1

Put the names of the winners of 'BOOKER PRIZE' in the chronological order from oldest to latest-

- A. V.S Naipaul
- B. Kiran Desai
- C. Salman Rushdie
- D. Arundhati Roy
- E. Arvind Adiga

Choose the **correct answer** from the options given below:

1. A D B C E
2. A C D B E
3. A C B D E
4. A B C D E

Options :

686340195805. 1
686340195806. 2
686340195807. 3
686340195808. 4

Question Number : 52 Question Id : 68634049567 Question Type : MCQ Option Shuffling : No Is Question Mandatory : No Calculator : None Response Time : N.A Think Time : N.A Minimum Instruction Time : 0 Correct Marks : 4 Wrong Marks : 1

'बुकर पुरस्कार' के विजेताओं के नामों को प्राचिनतम से आरंभ करते हुए नवीततम तक बढ़ने के कालक्रमानुसार व्यवस्थित कीजिए।

- A. वी. एस. नायपॉल
- B. किरण देसाई
- C. सलमान रुशदी
- D. अरुंधती रॉय
- E. अरविन्द अडिगा

नीचे दिए गए विकल्पों में से **सही उत्तर** का चयन कीजिए:

- 1. A D B C E
- 2. A C D B E
- 3. A C B D E
- 4. A B C D E

Options :

- 686340195805. 1
- 686340195806. 2
- 686340195807. 3
- 686340195808. 4

Question Number : 53 Question Id : 68634049568 Question Type : MCQ Option Shuffling : No Is Question Mandatory : No Calculator : None Response Time : N.A Think Time : N.A Minimum Instruction Time : 0 Correct Marks : 4 Wrong Marks : 1

What is the status given to Hindi language by the Constitution of India in Article 343 (1)?

- 1. Link language
- 2. Official language
- 3. National language
- 4. Associate official language

Options :

- 686340195809. 1
- 686340195810. 2
- 686340195811. 3
- 686340195812. 4

Question Number : 53 Question Id : 68634049568 Question Type : MCQ Option Shuffling : No Is Question Mandatory : No Calculator : None Response Time : N.A Think Time : N.A Minimum Instruction Time : 0 Correct Marks : 4 Wrong Marks : 1

भारतीय संविधान के अनुच्छेद- 343 (1) में हिन्दी भाषा को कौनसी प्रस्थिति प्रदान की गई है?

1. लिंक (सम्पर्क) भाषा
2. आधिकारिक भाषा
3. राष्ट्रीय भाषा
4. सह- आधिकारिक भाषा

Options :

686340195809. 1
686340195810. 2
686340195811. 3
686340195812. 4

Question Number : 54 Question Id : 68634049569 Question Type : MCQ Option Shuffling : No Is Question Mandatory : No Calculator : None Response Time : N.A Think Time : N.A Minimum Instruction Time : 0

Correct Marks : 4 Wrong Marks : 1

Shahrukh Khan, a renowned Indian film actor , has received an honory doctorate from the

1. University of Berlin
2. La Trobe University, Melbourne
3. University of Glasgow
4. Jamia Milia Islamia

Options :

686340195813. 1
686340195814. 2
686340195815. 3
686340195816. 4

Question Number : 54 Question Id : 68634049569 Question Type : MCQ Option Shuffling : No Is Question Mandatory : No Calculator : None Response Time : N.A Think Time : N.A Minimum Instruction Time : 0

Correct Marks : 4 Wrong Marks : 1

एक विख्यात फिल्म अभिनेता शाहरुख खान ने किससे एक मानद डॉक्टरेट की उपधि प्राप्त की थी ?

1. यूनिवर्सिटी ऑफ बर्लिन
2. ला ट्रॉब यूनिवर्सिटी , मेलबोर्न
3. यूनिवर्सिटी ऑफ ग्लासगो
4. जामिया मिलिया इस्लामिया

Options :

686340195813. 1

686340195814. 2

686340195815. 3

686340195816. 4

Question Number : 55 Question Id : 68634049570 Question Type : MCQ Option Shuffling : No Is Question Mandatory : No Calculator : None Response Time : N.A Think Time : N.A Minimum Instruction Time : 0

Correct Marks : 4 Wrong Marks : 1

In the film iqbal released in 2005, iqbal is a _____ boy, who dreams of playing cricket for India.

1. Visually challenged
2. Deaf and mute
3. Loco motor disabled
4. Polio victim

Options :

686340195817. 1

686340195818. 2

686340195819. 3

686340195820. 4

Question Number : 55 Question Id : 68634049570 Question Type : MCQ Option Shuffling : No Is Question Mandatory : No Calculator : None Response Time : N.A Think Time : N.A Minimum Instruction Time : 0

Correct Marks : 4 Wrong Marks : 1

2005 में रिलिज हुई फिल्म- इकबाल में इकबाल एक लड़का है, जो भारत के लिए क्रिकेट खेलने में का सपना संजोता है।

1. दृष्टि- बाधित
2. बधिर और मूक
3. गति- विषयक निःशक्त (लोकोमोटर डिसएबल)
4. पोलियो से पीड़ित

Options :

686340195817. 1

686340195818. 2

686340195819. 3

686340195820. 4

Question Number : 56 Question Id : 68634049571 Question Type : MCQ Option Shuffling : No Is Question Mandatory : No Calculator : None Response Time : N.A Think Time : N.A Minimum Instruction Time : 0

Correct Marks : 4 Wrong Marks : 1

The famous story "Brahmarakshas ka shishya" by Muoktibodh, the teacher

1. becomes a demon because he had misused his knowledge
2. becomes a demon because he had no students to teach
3. he had a fierce demonic spirit and personality
4. he had done evil things in life and sought salvation

Options :

- 686340195821. 1
- 686340195822. 2
- 686340195823. 3
- 686340195824. 4

Question Number : 56 Question Id : 68634049571 Question Type : MCQ Option Shuffling : No Is Question Mandatory : No Calculator : None Response Time : N.A Think Time : N.A Minimum Instruction Time : 0 Correct Marks : 4 Wrong Marks : 1

मुक्तिबोध की प्रसिद्ध कथा- 'ब्रह्मराक्षस का शिष्य' में शिक्षक:

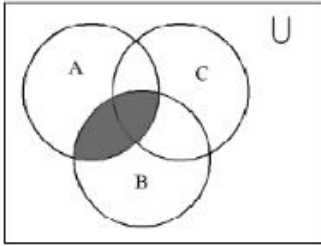
1. एक दानव बन जाता है क्योंकि उसने ज्ञान का दुरुपयोग किया था
2. एक दानव बन जाता है क्योंकि उसके पास शिक्षण के लिए कोई विद्यार्थी नहीं था
3. उसमें एक खूंखार पैशाचिक आत्मा और व्यक्तित्व विद्यमान थे
4. उसने जीवन में बुरे कार्य किए थे और मुक्ति की याचना की थी

Options :

- 686340195821. 1
- 686340195822. 2
- 686340195823. 3
- 686340195824. 4

Question Number : 57 Question Id : 68634049572 Question Type : MCQ Option Shuffling : No Is Question Mandatory : No Calculator : None Response Time : N.A Think Time : N.A Minimum Instruction Time : 0 Correct Marks : 4 Wrong Marks : 1

See the Diagram and think about the right responses. i.e. the figure show



1. $(A \cap B) \cap C$
2. $A \cap C$
3. $A \cap B - C$
4. $A \cap B$

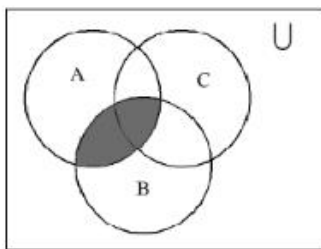
Options :

686340195825. 1
686340195826. 2
686340195827. 3
686340195828. 4

Question Number : 57 Question Id : 68634049572 Question Type : MCQ Option Shuffling : No Is Question Mandatory : No Calculator : None Response Time : N.A Think Time : N.A Minimum Instruction Time : 0

Correct Marks : 4 Wrong Marks : 1

वेन आरेख को देखे और सही विकल्पों के बारे में सोचें जिस तरह यह चित्र दर्शाता है



1. $(A \cap B) \cap C$
2. $A \cap C$
3. $A \cap B - C$
4. $A \cap B$

Options :

686340195825. 1
686340195826. 2
686340195827. 3
686340195828. 4

Question Number : 58 Question Id : 68634049573 Question Type : MCQ Option Shuffling : No Is Question Mandatory : No Calculator : None Response Time : N.A Think Time : N.A Minimum Instruction Time : 0

Correct Marks : 4 Wrong Marks : 1

If x, y, z in the axis of a given 3D Geometrical shape, then the given coordinate point $(-4, 7, -1)$ will lie in which octant

1. IV octant
2. VI octant
3. VII octant
4. VIII octant

Options :

686340195829. 1
686340195830. 2
686340195831. 3
686340195832. 4

Question Number : 58 Question Id : 68634049573 Question Type : MCQ Option Shuffling : No Is Question Mandatory : No Calculator : None Response Time : N.A Think Time : N.A Minimum Instruction Time : 0

Correct Marks : 4 Wrong Marks : 1

यदि x, y, z एक दिए गए 3D ज्यामितीय आकार के अक्ष में है तो दिया गया तुल्य बिंदु $(-4, 7, -1)$ किस अष्टांशक में होगा?

1. IV अष्टांशक
2. VI अष्टांशक
3. VII अष्टांशक
4. VIII अष्टांशक

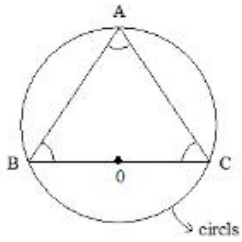
Options :

686340195829. 1
686340195830. 2
686340195831. 3
686340195832. 4

Question Number : 59 Question Id : 68634049574 Question Type : MCQ Option Shuffling : No Is Question Mandatory : No Calculator : None Response Time : N.A Think Time : N.A Minimum Instruction Time : 0

Correct Marks : 4 Wrong Marks : 1

See the adjacent figure and find the value of $\angle A$ in the semicircle



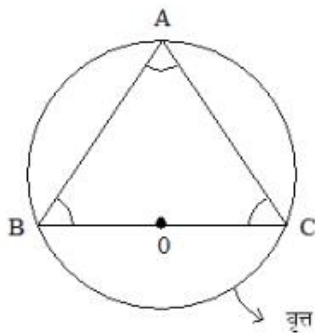
1. 100°
2. 45°
3. 60°
4. 90°

Options :

686340195833. 1
686340195834. 2
686340195835. 3
686340195836. 4

Question Number : 59 Question Id : 68634049574 Question Type : MCQ Option Shuffling : No Is Question Mandatory : No Calculator : None Response Time : N.A Think Time : N.A Minimum Instruction Time : 0 Correct Marks : 4 Wrong Marks : 1

निकटवर्ती आकृति को देखें और अर्धवृत्त में $\angle A$ का मान ज्ञात किजिए।



1. 100°
2. 45°
3. 60°
4. 90°

Options :

686340195833. 1
686340195834. 2
686340195835. 3
686340195836. 4

Question Number : 60 Question Id : 68634049575 Question Type : MCQ Option Shuffling : No Is Question Mandatory : No Calculator : None Response Time : N.A Think Time : N.A Minimum Instruction Time : 0 Correct Marks : 4 Wrong Marks : 1

The figure (A) is showing which type of function?

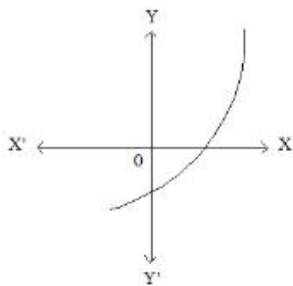


Figure (A)

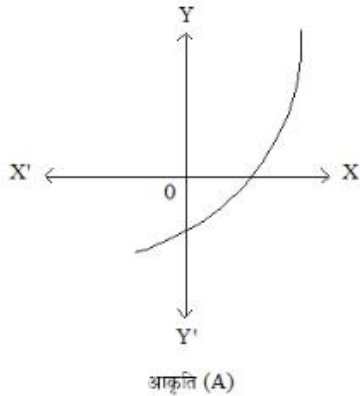
1. Strictly increasing function
2. Strictly decreasing function
3. Decreasing function
4. Increasing function

Options :

- 686340195837. 1
- 686340195838. 2
- 686340195839. 3
- 686340195840. 4

Question Number : 60 Question Id : 68634049575 Question Type : MCQ Option Shuffling : No Is Question Mandatory : No Calculator : None Response Time : N.A Think Time : N.A Minimum Instruction Time : 0 Correct Marks : 4 Wrong Marks : 1

यह आकृति (A) फलन के किस प्रकार को दर्शाती है?



1. निरंतर वर्धमान फलन
2. निरंतर ह्रासमान फलन
3. ह्रासमान फलन
4. वर्धमान फलन

Options :

686340195837. 1
686340195838. 2
686340195839. 3
686340195840. 4

Question Number : 61 Question Id : 68634049576 Question Type : MCQ Option Shuffling : No Is Question Mandatory : No Calculator : None Response Time : N.A Think Time : N.A Minimum Instruction Time : 0

Correct Marks : 4 Wrong Marks : 1

Find out the degree of the differential equation $\frac{d^2t}{ds^2} + \left(\frac{dt}{ds}\right)^2 + 2t=0$

1. 2
2. 1
3. 0
4. Not defined

Options :

686340195841. 1
686340195842. 2
686340195843. 3
686340195844. 4

Question Number : 61 Question Id : 68634049576 Question Type : MCQ Option Shuffling : No Is Question Mandatory : No Calculator : None Response Time : N.A Think Time : N.A Minimum Instruction Time : 0

Correct Marks : 4 Wrong Marks : 1

अवकल समीकरण की डिग्री (अंश) को ज्ञात कीजिए। $\frac{d^2t}{ds^2} + \left(\frac{dt}{ds}\right)^2 + 2t = 0$

1. 2
2. 1
3. 0
4. परिभाषित नहीं किया गया है।

Options :

- 686340195841. 1
- 686340195842. 2
- 686340195843. 3
- 686340195844. 4

Question Number : 62 Question Id : 68634049577 Question Type : MCQ Option Shuffling : No Is Question Mandatory : No Calculator : None Response Time : N.A Think Time : N.A Minimum Instruction Time : 0

Correct Marks : 4 Wrong Marks : 1

Ram and Mohan can do a piece of work in 20days. Mohan alone can do the work in 30days. In how many days will Ram alone complete the work.

1. 60 days
2. 50 days
3. 40 days
4. 30 days

Options :

- 686340195845. 1
- 686340195846. 2
- 686340195847. 3
- 686340195848. 4

Question Number : 62 Question Id : 68634049577 Question Type : MCQ Option Shuffling : No Is Question Mandatory : No Calculator : None Response Time : N.A Think Time : N.A Minimum Instruction Time : 0

Correct Marks : 4 Wrong Marks : 1

राम और मोहन एक काम को 20 दिन में करते हैं, मोहन अकेला उस काम को 30 दिन में करता है, तो राम अकेला उस काम को कितने दिन में करेगा ?

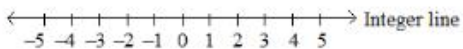

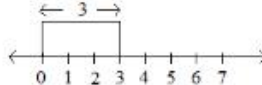

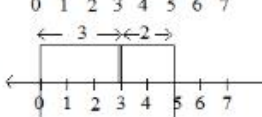
1. 60 दिन
2. 50 दिन
3. 40 दिन
4. 30 दिन

Options :

686340195845. 1
 686340195846. 2
 686340195847. 3
 686340195848. 4

Question Number : 63 Question Id : 68634049578 Question Type : MCQ Option Shuffling : No Is Question Mandatory : No Calculator : None Response Time : N.A Think Time : N.A Minimum Instruction Time : 0 Correct Marks : 4 Wrong Marks : 1

Process of indicating addition [$3+2=5$] at number system

- A.  Integer line
- B.  Integer line
- C. 
- D. 
- E. 

Choose the **correct answer** from the options given below:

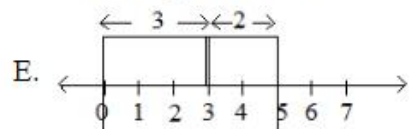
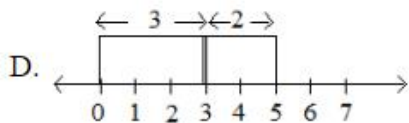
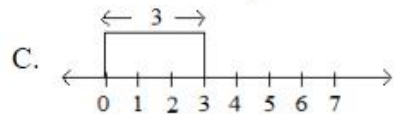
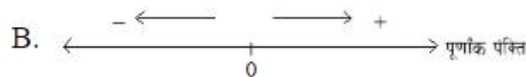
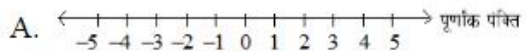
1. A, B, C, D, E
2. B, A, C, D, E
3. E, D, C, B, A
4. B, A, D, C, E

Options :

686340195849. 1
 686340195850. 2
 686340195851. 3
 686340195852. 4

Question Number : 63 Question Id : 68634049578 Question Type : MCQ Option Shuffling : No Is Question Mandatory : No Calculator : None Response Time : N.A Think Time : N.A Minimum Instruction Time : 0 Correct Marks : 4 Wrong Marks : 1

संख्या पद्धति पर योग $[3+2=5]$ इंगित करने की प्रक्रिया:



नीचे दिए गए विकल्पों में से सही उत्तर का चयन कीजिए:

1. A, B, C, D, E
2. B, A, C, D, E
3. E, D, C, B, A
4. B, A, D, C, E

Options :

686340195849. 1
686340195850. 2
686340195851. 3
686340195852. 4

Question Number : 64 Question Id : 68634049579 Question Type : MCQ Option Shuffling : No Is Question Mandatory : No Calculator : None Response Time : N.A Think Time : N.A Minimum Instruction Time : 0 Correct Marks : 4 Wrong Marks : 1

Two natural numbers are in the ratio 3:5 and their product is 2160. The smaller of the numbers is

1. 20
2. 14
3. 12
4. 18

Options :

686340195853. 1

686340195854. 2

686340195855. 3

686340195856. 4

Question Number : 64 Question Id : 68634049579 Question Type : MCQ Option Shuffling : No Is Question Mandatory : No Calculator : None Response Time : N.A Think Time : N.A Minimum Instruction Time : 0

Correct Marks : 4 Wrong Marks : 1

दो प्राकृतिक संख्याओं का अनुपात 3:5 है और उनका गुणनफल 2160 है तो दोनों संख्याओं में से छोटी संख्या क्या होगी ?

1. 20

2. 14

3. 12

4. 18

Options :

686340195853. 1

686340195854. 2

686340195855. 3

686340195856. 4

Question Number : 65 Question Id : 68634049580 Question Type : MCQ Option Shuffling : No Is Question Mandatory : No Calculator : None Response Time : N.A Think Time : N.A Minimum Instruction Time : 0

Correct Marks : 4 Wrong Marks : 1

How much time will it take for an amount of Rs.450 to yield Rs.81 as interest at 4.5% per annum of simple interest?

1. 3.5 years

2. 4.5 years

3. 5 years

4. 4 years

Options :

686340195857. 1

686340195858. 2

686340195859. 3

686340195860. 4

Question Number : 65 Question Id : 68634049580 Question Type : MCQ Option Shuffling : No Is Question Mandatory : No Calculator : None Response Time : N.A Think Time : N.A Minimum Instruction Time : 0

Correct Marks : 4 Wrong Marks : 1

कितने समय मे. 450 रूपये कि राशी पर 4.5% की वार्षिक ब्याज दर पर कुल 8% रूपये का साधारण ब्याज प्राप्त होगा ?

1. 3.5 वर्ष
2. 4.5 वर्ष
3. 5 वर्ष
4. 4 वर्ष

Options :

686340195857. 1
686340195858. 2
686340195859. 3
686340195860. 4

Question Number : 66 Question Id : 68634049581 Question Type : MCQ Option Shuffling : No Is Question Mandatory : No Calculator : None Response Time : N.A Think Time : N.A Minimum Instruction Time : 0

Correct Marks : 4 Wrong Marks : 1

If an article is sold at 300 percent profit, then the ratio of its cost price to its selling price will be

1. 1:4
2. 4:1
3. 1:3
4. 3:1

Options :

686340195861. 1
686340195862. 2
686340195863. 3
686340195864. 4

Question Number : 66 Question Id : 68634049581 Question Type : MCQ Option Shuffling : No Is Question Mandatory : No Calculator : None Response Time : N.A Think Time : N.A Minimum Instruction Time : 0

Correct Marks : 4 Wrong Marks : 1

यदि एक वास्तु को 300% लाभ पर बेचा जाता है, तो उसके लागत मूल्य और विक्रय मूल्य का अनुपात क्या होगा ?

1. 1:4
2. 4:1
3. 1:3
4. 3:1

Options :

686340195861. 1

686340195862. 2

686340195863. 3

686340195864. 4

Question Number : 67 Question Id : 68634049582 Question Type : MCQ Option Shuffling : No Is Question Mandatory : No Calculator : None Response Time : N.A Think Time : N.A Minimum Instruction Time : 0

Correct Marks : 4 Wrong Marks : 1

Two ships are sailing in the Sea on the two sides of a lighthouse. The angles of elevation of the top of the lighthouse as observed from the two ships are 30° and 45° respectively. If the lighthouse is 100m high, the distance between the two ships is:

1. 273m

2. 300m

3. 173m

4. 200m

Options :

686340195865. 1

686340195866. 2

686340195867. 3

686340195868. 4

Question Number : 67 Question Id : 68634049582 Question Type : MCQ Option Shuffling : No Is Question Mandatory : No Calculator : None Response Time : N.A Think Time : N.A Minimum Instruction Time : 0

Correct Marks : 4 Wrong Marks : 1

दो जहाज एक समुद्र में, एक लाइट हाउस के दोनों ओर चल रहे हैं। लाइट हाउस के शीर्ष का दोनों जहाजों से उन्नयन कोण क्रमशः 30° और 45° हैं। अगर लाइट हाउस की ऊंचाई 100 मीटर है तो दोनों जहाजों के बीच की दूरी क्या होगी

1. 273 मीटर

2. 300m मीटर

3. 173m मीटर

4. 200 मीटर

Options :

686340195865. 1

686340195866. 2

686340195867. 3

686340195868. 4

Question Number : 68 Question Id : 68634049583 Question Type : MCQ Option Shuffling : No Is Question Mandatory : No Calculator : None Response Time : N.A Think Time : N.A Minimum Instruction Time : 0

Correct Marks : 4 Wrong Marks : 1

Single cell protein refers to edible unicellular microorganism which one of the following belongs to this category?

1. Yeast
2. Spirulina
3. Lactobacillus
4. Leuconostoc

Options :

686340195869. 1
686340195870. 2
686340195871. 3
686340195872. 4

Question Number : 68 Question Id : 68634049583 Question Type : MCQ Option Shuffling : No Is Question Mandatory : No Calculator : None Response Time : N.A Think Time : N.A Minimum Instruction Time : 0

Correct Marks : 4 Wrong Marks : 1

एकल कोशिका प्रोटीन, एक खाद्य कोशिकीय सूक्ष्मजीव को संदर्भित करता है। निम्नलिखित में से कौन सा इससे संबंधित है?

1. खमीर
2. स्पाइरुलाइना
3. लैक्टोबैसिलस
4. ल्यूकोनोस्टॉक

Options :

686340195869. 1
686340195870. 2
686340195871. 3
686340195872. 4

Question Number : 69 Question Id : 68634049584 Question Type : MCQ Option Shuffling : No Is Question Mandatory : No Calculator : None Response Time : N.A Think Time : N.A Minimum Instruction Time : 0

Correct Marks : 4 Wrong Marks : 1

The conjugate base of a strong acid is a weak base and it has least tendency to accept a proton which one is an example of strong acid-

1. CH_3COOH
2. NH_3
3. HCL
4. Nacl

Options :

686340195873. 1
686340195874. 2
686340195875. 3
686340195876. 4

Question Number : 69 Question Id : 68634049584 Question Type : MCQ Option Shuffling : No Is Question Mandatory : No Calculator : None Response Time : N.A Think Time : N.A Minimum Instruction Time : 0

Correct Marks : 4 Wrong Marks : 1

एक प्रबल अम्ल का सयुग्मी क्षारक एक दुर्बल क्षारक है और इसमें एक प्रोटीन को स्वीकार्य करने की न्यून प्रवृत्ति होती है। निम्नलिखित में से कौनसा प्रबल अम्ल का एक उदाहरण है?

1. CH_3COOH
2. NH_3
3. HCL
4. Nacl

Options :

686340195873. 1
686340195874. 2
686340195875. 3
686340195876. 4

Question Number : 70 Question Id : 68634049585 Question Type : MCQ Option Shuffling : No Is Question Mandatory : No Calculator : None Response Time : N.A Think Time : N.A Minimum Instruction Time : 0

Correct Marks : 4 Wrong Marks : 1

'Law of natural selection' was given by-

1. Ernst Mayr
2. Lamarck
3. Darwin
4. Muir

Options :

- 686340195877. 1
- 686340195878. 2
- 686340195879. 3
- 686340195880. 4

Question Number : 70 Question Id : 68634049585 Question Type : MCQ Option Shuffling : No Is Question Mandatory : No Calculator : None Response Time : N.A Think Time : N.A Minimum Instruction Time : 0 Correct Marks : 4 Wrong Marks : 1

किसने 'प्राकृतिक वरण का नियम' दिया था?

- 1. अन्स्ट मायर
- 2. लामार्क
- 3. डार्विन
- 4. म्युर

Options :

- 686340195877. 1
- 686340195878. 2
- 686340195879. 3
- 686340195880. 4

Question Number : 71 Question Id : 68634049586 Question Type : MCQ Option Shuffling : No Is Question Mandatory : No Calculator : None Response Time : N.A Think Time : N.A Minimum Instruction Time : 0 Correct Marks : 4 Wrong Marks : 1

Which one is not an inter conversion of the state of matter

- 1. Solid $\xrightarrow{\text{Heat}}$ Liquid $\xrightarrow{\text{Heat}}$ Gas
- 2. Gas $\xrightarrow{\text{Heat}}$ Liquid $\xrightarrow{\text{Heat}}$ Solid
- 3. Gas $\xrightarrow{\text{Cool and Compress}}$ Liquid $\xrightarrow{\text{Cool}}$ Solid
- 4. Solid $\xrightarrow{\text{Heat}}$ Gas $\xrightarrow{\text{Cool}}$ Solid

Options :

- 686340195881. 1
- 686340195882. 2
- 686340195883. 3
- 686340195884. 4

Question Number : 71 Question Id : 68634049586 Question Type : MCQ Option Shuffling : No Is Question Mandatory : No Calculator : None Response Time : N.A Think Time : N.A Minimum Instruction Time : 0 Correct Marks : 4 Wrong Marks : 1

निम्नलिखित में से कौन पदार्थ की स्थिति का एक अंतरा-रूपांतरण नहीं है?

1. ठोस $\xrightarrow{\text{उष्मा}}$ तरल $\xrightarrow{\text{उष्मा}}$ गैस
2. गैस $\xrightarrow{\text{उष्मा}}$ तरल $\xrightarrow{\text{उष्मा}}$ ठोस
3. गैस $\xrightarrow{\text{शीतल और संपीड}}$ तरल $\xrightarrow{\text{शीतल}}$ ठोस
4. ठोस $\xrightarrow{\text{उष्मा}}$ गैस $\xrightarrow{\text{शीतल}}$ ठोस

Options :

686340195881. 1
686340195882. 2
686340195883. 3
686340195884. 4

Question Number : 72 Question Id : 68634049587 Question Type : MCQ Option Shuffling : No Is Question Mandatory : No Calculator : None Response Time : N.A Think Time : N.A Minimum Instruction Time : 0

Correct Marks : 4 Wrong Marks : 1

Pyramid of energy in an ecosystem is always -

1. Inverted
2. Upright
3. Horizontal
4. Cyclic

Options :

686340195885. 1
686340195886. 2
686340195887. 3
686340195888. 4

Question Number : 72 Question Id : 68634049587 Question Type : MCQ Option Shuffling : No Is Question Mandatory : No Calculator : None Response Time : N.A Think Time : N.A Minimum Instruction Time : 0

Correct Marks : 4 Wrong Marks : 1

एक पारितंत्र में ऊर्जा का पिरामिड सदैव होता है:

1. प्रतिलोमित
2. खड़ा
3. क्षैतीज
4. चक्रीय

Options :

- 686340195885. 1
- 686340195886. 2
- 686340195887. 3
- 686340195888. 4

Question Number : 73 Question Id : 68634049588 Question Type : MCQ Option Shuffling : No Is Question Mandatory : No Calculator : None Response Time : N.A Think Time : N.A Minimum Instruction Time : 0 Correct Marks : 4 Wrong Marks : 1

The SI system has seven basic units and these units pertain to the seven fundamental scientific quantities which one is not in the list of seven SI units-

- 1. Second
- 2. Kelvin
- 3. Mass
- 4. Mole

Options :

- 686340195889. 1
- 686340195890. 2
- 686340195891. 3
- 686340195892. 4

Question Number : 73 Question Id : 68634049588 Question Type : MCQ Option Shuffling : No Is Question Mandatory : No Calculator : None Response Time : N.A Think Time : N.A Minimum Instruction Time : 0 Correct Marks : 4 Wrong Marks : 1

SI system में सात आधार इकाइयों है और ये इकाइयाँ सात मूलभूत वैज्ञानिक राशियों (कान्टिटीज) से संबंधित हैं। निम्नलिखित में से कौनसी एक सात एस.आई. इकाइयों की सूची में नहीं है।

- 1. सेकंड
- 2. केल्विन
- 3. संहति
- 4. मोल

Options :

- 686340195889. 1
- 686340195890. 2
- 686340195891. 3
- 686340195892. 4

Question Number : 74 Question Id : 68634049589 Question Type : MCQ Option Shuffling : No Is Question Mandatory : No Calculator : None Response Time : N.A Think Time : N.A Minimum Instruction Time : 0 Correct Marks : 4 Wrong Marks : 1

Given below are two statements: one is labelled as **Assertion A** and the other is labelled as **Reason R**

Assertion A: The process of conversion of nitrogen (N_2) to ammonia by living organisms is called biological nitrogen fixation

Reason R: Nitrogenase enzyme which is capable of nitrogen reduction is present exclusively in Eukaryotes

In the light of the above statements, choose the *most appropriate answer* from the options given below

1. Both **A** and **R** are true and **R** is the correct explanation of **A**
2. Both **A** and **R** are true but **R** is **NOT** the correct explanation of **A**
3. **A** is true but **R** is false
4. **A** is false but **R** is true

Options :

686340195893. 1
686340195894. 2
686340195895. 3
686340195896. 4

Question Number : 74 Question Id : 68634049589 Question Type : MCQ Option Shuffling : No Is Question Mandatory : No Calculator : None Response Time : N.A Think Time : N.A Minimum Instruction Time : 0

Correct Marks : 4 Wrong Marks : 1

नीचे दो कथन दिए गए हैं, एक **अभिकथन (Assertion A)** के रूप में लिखित है तो दूसरा उसके **कारण (Reason R)** के रूप में

अभिकथन A: जीवित जीवों द्वारा नाइट्रोजन (N_2) का अमोनिया में रूपांतरण की प्रक्रिया को जैविक नाइट्रोजन में रूपांतरण कहा जाता है।

कारण R: नाइट्रोजनेस एन्जाइम, जो नाइट्रोजन के अपघटन में सक्षम है, अनन्य रूप से इकार्योट्स में विद्यमान हैं।

उपरोक्त कथन के आलोक में, नीचे दिए गए विकल्पों में से सबसे उपयुक्त उत्तर का चयन कीजिए

1. **A** और **R** दोनों सही हैं और **R, A** की सही व्याख्या है
2. **A** और **R** दोनों सही हैं और **R, A** की सही व्याख्या नहीं है
3. **A** सही है लेकिन **R** सही नहीं है
4. **A** सही नहीं है लेकिन **R** सही है

Options :

686340195893. 1
686340195894. 2
686340195895. 3
686340195896. 4

Question Number : 75 Question Id : 68634049590 Question Type : MCQ Option Shuffling : No Is Question Mandatory : No Calculator : None Response Time : N.A Think Time : N.A Minimum Instruction Time : 0

Correct Marks : 4 Wrong Marks : 1

In a forest ecosystem, transfer of energy in a food chain:

- A. Lion
- B. Deer
- C. Vulture
- D. Plants
- E. Fungi & bacteria

Choose the **correct answer** from the options given below:

1. D, C, B, E, A
2. D, B, C, A, E
3. D, B, A, C, E
4. A, B, C, E, D

Options :

- 686340195897. 1
- 686340195898. 2
- 686340195899. 3
- 686340195900. 4

Question Number : 75 Question Id : 68634049590 Question Type : MCQ Option Shuffling : No Is Question Mandatory : No Calculator : None Response Time : N.A Think Time : N.A Minimum Instruction Time : 0

Correct Marks : 4 Wrong Marks : 1

एक वन पारितंत्र में एक खाद्य श्रृंखला में ऊर्जा का स्थानांतरण:

- A. सिंह
- B. मृग
- C. गिद्ध
- D. पादप
- E. फंगी और जीवाणु (बैक्टीरिया)

नीचे दिए गए विकल्पों में से **सही उत्तर** का चयन कीजिए:

1. D, C, B, E, A
2. D, B, C, A, E
3. D, B, A, C, E
4. A, B, C, E, D

Options :

- 686340195897. 1
- 686340195898. 2

686340195899. 3

686340195900. 4

Question Number : 76 Question Id : 68634049591 Question Type : MCQ Option Shuffling : No Is Question Mandatory : No Calculator : None Response Time : N.A Think Time : N.A Minimum Instruction Time : 0 Correct Marks : 4 Wrong Marks : 1

Given below are two statements:

Statement I: Acquired immunodeficiency syndrome means deficiency of immune system, acquired during the life time of an individual and it is not a congenital disease

Statement II: The retrovirus have an envelope enclosing the DNA genome

In the light of the above statements, choose the **most appropriate answer** from the options given below.

1. Both **Statement I** and **Statement II** are correct
2. Both **Statement I** and **Statement II** are incorrect
3. **Statement I** is correct but **Statement II** is incorrect
4. **Statement I** is incorrect but **Statement II** is correct

Options :

686340195901. 1

686340195902. 2

686340195903. 3

686340195904. 4

Question Number : 76 Question Id : 68634049591 Question Type : MCQ Option Shuffling : No Is Question Mandatory : No Calculator : None Response Time : N.A Think Time : N.A Minimum Instruction Time : 0 Correct Marks : 4 Wrong Marks : 1

नीचे दो कथन दिए गए हैं:

कथन I: 'एक़ायर्ड इम्यूनो डिफिसिएंसी सिन्ड्रोम' का अर्थ किसी व्यक्ति के जीवनकाल के दौरान उपार्जित प्रतिरक्षण प्रणाली की कमी है, जो एक जन्मजात रोग नहीं है।

कथन II: रेट्रोवायरस में डी. एन. ए. जीनोम का एक परिवद्ध आवरण होता है।

उपरोक्त कथन के आलोक में, नीचे दिए गए विकल्पों में से सबसे उपयुक्त उत्तर का चयन कीजिए:

1. **कथन I** और **कथन II** दोनों सही हैं
2. **कथन I** और **कथन II** दोनों गलत हैं
3. **कथन I** सही हैं, लेकिन **कथन II** गलत हैं
4. **कथन I** गलत हैं, लेकिन **कथन II** सही हैं

Options :

686340195901. 1

686340195902. 2

686340195903. 3

686340195904. 4

Question Number : 77 Question Id : 68634049592 Question Type : MCQ Option Shuffling : No Is Question Mandatory : No Calculator : None Response Time : N.A Think Time : N.A Minimum Instruction Time : 0

Correct Marks : 4 Wrong Marks : 1

An ecosystem has

- A. Plants are the first trophic level
- B. Primary consumers are always carnivore
- C. Primary and secondary consumers are herbivore
- D. Secondary consumers are carnivore
- E. Tertiary Consumers are the fourth trophic level

Choose the **most appropriate answer** from the options given below:

- 1. A, B and E only
- 2. A, D and E only
- 3. B, C and E only
- 4. B, C and D only

Options :

686340195905. 1

686340195906. 2

686340195907. 3

686340195908. 4

Question Number : 77 Question Id : 68634049592 Question Type : MCQ Option Shuffling : No Is Question Mandatory : No Calculator : None Response Time : N.A Think Time : N.A Minimum Instruction Time : 0

Correct Marks : 4 Wrong Marks : 1

एक पारितंत्र में होते:

- A. पादप प्रथम पोषण स्तर के होते हैं।
- B. प्राथमिक उपभोक्ता सदैव मांसाहारी होते हैं।
- C. प्राथमिक और द्वितीयक उपभोक्ता शाकाहारी होते हैं।
- D. द्वितीयक उपभोक्ता मांसाहारी होते हैं।
- E. तृतीयक उपभोक्ता चतुर्थ पोषण स्तर के हैं।

नीचे दिए गए विकल्पों में से **सही उत्तर** का चयन कीजिए:

- 1. A, B और E
- 2. A, D और E
- 3. B, C और E
- 4. B, C और D

Options :

- 686340195905. 1
- 686340195906. 2
- 686340195907. 3
- 686340195908. 4

Question Number : 78 Question Id : 68634049593 Question Type : MCQ Option Shuffling : No Is Question Mandatory : No Calculator : None Response Time : N.A Think Time : N.A Minimum Instruction Time : 0 Correct Marks : 4 Wrong Marks : 1

Match List I with List II

LIST I		LIST II	
A.	Spongilla	I.	Coelenterata
B.	Fasciola	II.	Porifera
C.	Adamsia (Sea anemone)	III.	Annelida
D.	Hirudinaria	IV.	Platyhelminthes

Choose the **correct answer** from the options given below:

- 1. A-II B-I C-IV D-III
- 2. A-II B-IV C-I D-III
- 3. A-IV B-III C-II D-I
- 4. A-I B-III C-IV D-II

Options :

- 686340195909. 1
- 686340195910. 2
- 686340195911. 3
- 686340195912. 4

Question Number : 78 Question Id : 68634049593 Question Type : MCQ Option Shuffling : No Is Question Mandatory : No Calculator : None Response Time : N.A Think Time : N.A Minimum Instruction Time : 0

Correct Marks : 4 Wrong Marks : 1

सूची I का सूची II से मिलान कीजिए

सूची I		सूची II	
A.	स्पंजिला	I.	सीलेन्टरेटा (गुहांत्र)
B.	फिसिओला	II.	पोरिफेरा
C.	एडेम्सिया (सी ऐनिमोन)	III.	ऐनेलिडा
D.	हीरुडिनेरिया	IV.	प्लैटीहेल्मिन्थेस

निम्नलिखित विकल्पों में से सही उत्तर का चयन कीजिए :

1. A-II B-I C-IV D-III
2. A-II B-IV C-I D-III
3. A-IV B-III C-II D-I
4. A-I B-III C-IV D-II

Options :

686340195909. 1
686340195910. 2
686340195911. 3
686340195912. 4

Question Number : 79 Question Id : 68634049594 Question Type : MCQ Option Shuffling : No Is Question Mandatory : No Calculator : None Response Time : N.A Think Time : N.A Minimum Instruction Time : 0

Correct Marks : 4 Wrong Marks : 1

Match List I with List II

Functional classification		Towns	
A.	Cultural Town	I.	Panchmarhi
B.	Tourist Town	II.	Ujjain
C.	Educational Town	III.	Kolkatta
D.	Commercial Town	IV.	Allahabad

Choose the correct answer from the options given below:

1. A-I B-II C-III D-IV
2. A-II B-I C-IV D-III
3. A-IV B-III C-II D-I
4. A-III B-IV C-I D-II

Options :

686340195913. 1
686340195914. 2
686340195915. 3

Question Number : 79 Question Id : 68634049594 Question Type : MCQ Option Shuffling : No Is Question Mandatory : No Calculator : None Response Time : N.A Think Time : N.A Minimum Instruction Time : 0

Correct Marks : 4 Wrong Marks : 1

सूची I का सूची II से मिलान कीजिए

सूची I प्रकार्यात्मक वर्गीकरण		सूची II नगर	
A.	सांस्कृतिक नगर	I.	पंचमढी
B.	पर्यटक नगर	II.	उज्जैन
C.	शैक्षिक नगर	III.	कोलकाता
D.	वाणिज्यिक नगर	IV.	इलाहाबाद

निम्नलिखित विकल्पों में से सही उत्तर का चयन कीजिए :

1. A-I B-II C-III D-IV
2. A-II B-I C-IV D-III
3. A-IV B-III C-II D-I
4. A-III B-IV C-I D-II

Options :

686340195913. 1
686340195914. 2
686340195915. 3
686340195916. 4

Question Number : 80 Question Id : 68634049595 Question Type : MCQ Option Shuffling : No Is Question Mandatory : No Calculator : None Response Time : N.A Think Time : N.A Minimum Instruction Time : 0

Correct Marks : 4 Wrong Marks : 1

Given below are two statements:

Statement I: The notion of sustainable development emerged in the wake of general rise in the awareness of environment issues in the late 2000s in Eastern World

Statement II: Sustainable development reflects the concern of people about desirable effects of industrial development on the environment

In the light of the above statements, choose the **correct answer** from the options given below.

1. Both **Statement I** and **Statement II** are true
2. Both **Statement I** and **Statement II** are false
3. **Statement I** is true but **Statement II** is false
4. **Statement I** is false but **Statement II** is true

Options :

686340195917. 1
686340195918. 2
686340195919. 3
686340195920. 4

Question Number : 80 Question Id : 68634049595 Question Type : MCQ Option Shuffling : No Is Question Mandatory : No Calculator : None Response Time : N.A Think Time : N.A Minimum Instruction Time : 0

Correct Marks : 4 Wrong Marks : 1

नीचे दो कथन दिए गए हैं:

कथन I: संधारणीय विकास की धारणा का पूर्वी विश्व में 2000 के दशक के अंतिम वर्षों में पर्यावरण के बारे में जागरूकता में सामान्य वृद्धि के दृष्टिगत अभ्युदय हुआ था।

कथन II: संधारणीय विकास औद्योगिक विकास के पर्यावरण पर वंछित प्रभावों के बारे में जनता के सरोकार को प्रतिबिम्बित करता है।

उपरोक्त कथन के आलोक में, नीचे दिए गए विकल्पों में से सबसे उपयुक्त उत्तर का चयन कीजिए:

1. **कथन I** और **कथन II** दोनों सही हैं
2. **कथन I** और **कथन II** दोनों सही नहीं हैं
3. **कथन I** सही हैं, लेकिन **कथन II** गलत हैं
4. **कथन I** गलत हैं, लेकिन **कथन II** सही हैं

Options :

686340195917. 1
686340195918. 2
686340195919. 3
686340195920. 4

Question Number : 81 Question Id : 68634049596 Question Type : MCQ Option Shuffling : No Is Question Mandatory : No Calculator : None Response Time : N.A Think Time : N.A Minimum Instruction Time : 0

Correct Marks : 4 Wrong Marks : 1

Warebandi system is

1. A system of equitable distribution of water in the command area of canal outlet
2. A technique of collecting and storing of rain water at surface or in sub-surface aquifer
3. A movement of the people for the specific purpose from one place to another in the country
4. A practice of seasonal migration of pastoral communities

Options :

686340195921. 1
686340195922. 2
686340195923. 3
686340195924. 4

Question Number : 81 Question Id : 68634049596 Question Type : MCQ Option Shuffling : No Is Question Mandatory : No Calculator : None Response Time : N.A Think Time : N.A Minimum Instruction Time : 0 Correct Marks : 4 Wrong Marks : 1

वारेबंदी (Warebandi) प्रणाली क्या है?

1. नहर के विकास के कमान क्षेत्र में जल के न्यायसंग्रत वितरण की एक प्रणाली
2. ऊपरी परत या उप-सतही एक्विफायर पर वर्षा जल के संग्रह और भंडारण की एक तकनीक
3. देश में एक से दूसरे स्थान तक विशेष प्रयोजन के लिए जनता का एक आंदोलन
4. पशुचारी समुदायों के मौसमी प्रवसन की एक प्रथा

Options :

- 686340195921. 1
- 686340195922. 2
- 686340195923. 3
- 686340195924. 4

Question Number : 82 Question Id : 68634049597 Question Type : MCQ Option Shuffling : No Is Question Mandatory : No Calculator : None Response Time : N.A Think Time : N.A Minimum Instruction Time : 0 Correct Marks : 4 Wrong Marks : 1

Which of the following planets is not a dwarf planet?

1. Ceres
2. Eris
3. Pluto
4. Uranus

Options :

- 686340195925. 1
- 686340195926. 2
- 686340195927. 3
- 686340195928. 4

Question Number : 82 Question Id : 68634049597 Question Type : MCQ Option Shuffling : No Is Question Mandatory : No Calculator : None Response Time : N.A Think Time : N.A Minimum Instruction Time : 0 Correct Marks : 4 Wrong Marks : 1

निम्नलिखित में कौनसा ग्रह एक वामन (बौना) ग्रह नहीं है?

1. सेर्स (Ceres)
2. इरिस (Eris)
3. प्लूटो (Pluto)
4. यूरेनस (Uranus)

Options :

686340195925. 1
686340195926. 2
686340195927. 3
686340195928. 4

Question Number : 83 Question Id : 68634049598 Question Type : MCQ Option Shuffling : No Is Question Mandatory : No Calculator : None Response Time : N.A Think Time : N.A Minimum Instruction Time : 0 Correct Marks : 4 Wrong Marks : 1

Calculate the density of population if, area of the region is 100 sq km, population is 1,50,000 persons.

1. 1,000 person/sq km
2. 1,250 person/sq km
3. 1,500 person/sq km
4. 1,750 person/sq km

Options :

686340195929. 1
686340195930. 2
686340195931. 3
686340195932. 4

Question Number : 83 Question Id : 68634049598 Question Type : MCQ Option Shuffling : No Is Question Mandatory : No Calculator : None Response Time : N.A Think Time : N.A Minimum Instruction Time : 0 Correct Marks : 4 Wrong Marks : 1

यदि प्रदेश का क्षेत्र 100 वर्ग किमी है और जनसंख्या 1,50,000 व्यक्ति है तो जनसंख्या के घनत्व का परिकलन कीजिए।

1. 1,000 व्यक्ति /वर्ग किमी:
2. 1,250 व्यक्ति /वर्ग किमी:
3. 1,500 व्यक्ति /वर्ग किमी:
4. 1,750 व्यक्ति /वर्ग किमी:

Options :

686340195929. 1
686340195930. 2
686340195931. 3
686340195932. 4

**Question Number : 84 Question Id : 68634049599 Question Type : MCQ Option Shuffling : No Is Question Mandatory :
No Calculator : None Response Time : N.A Think Time : N.A Minimum Instruction Time : 0
Correct Marks : 4 Wrong Marks : 1**

Secondary source of data consists of

- A. Interviews
- B. Questionnaire
- C. Government publication
- D. Electronic media
- E. Personal observation

Choose the **correct answer** from the options given below:

- 1. A and B only
- 2. C and D only
- 3. A and C only
- 4. B and E only

Options :

686340195933. 1
686340195934. 2
686340195935. 3
686340195936. 4

**Question Number : 84 Question Id : 68634049599 Question Type : MCQ Option Shuffling : No Is Question Mandatory :
No Calculator : None Response Time : N.A Think Time : N.A Minimum Instruction Time : 0
Correct Marks : 4 Wrong Marks : 1**

डेटा (दत्त) के द्वितीयक स्त्रोत क्या हैं?

- A. साक्षात्कार
- B. प्रश्नावली
- C. सरकारी प्रकाशन
- D. इलेक्ट्रॉनिक मीडिया
- E. व्यक्तिगत अवलोकन

नीचे दिए गए विकल्पों में से **सही उत्तर** का चयन कीजिए:

1. केवल A और B
2. केवल C और D
3. केवल A और C
4. केवल B और E

Options :

- 686340195933. 1
- 686340195934. 2
- 686340195935. 3
- 686340195936. 4

Question Number : 85 Question Id : 68634049600 Question Type : MCQ Option Shuffling : No Is Question Mandatory : No Calculator : None Response Time : N.A Think Time : N.A Minimum Instruction Time : 0 Correct Marks : 4 Wrong Marks : 1

Match List I with List II

Railway Zone		Headquarters	
A.	Northern	I.	Secundarabad
B.	North Central	II.	Mumbai (Church Gate)
C.	South Central	III.	New Delhi
D.	Western	IV.	Allahabad

Choose the **correct answer** from the options given below:

1. A-III B-IV C-I D-II
2. A-IV B-III C-II D-I
3. A-IV B-II C-III D-I
4. A-III B-I C-IV D-II

Options :

- 686340195937. 1
- 686340195938. 2
- 686340195939. 3
- 686340195940. 4

Question Number : 85 Question Id : 68634049600 Question Type : MCQ Option Shuffling : No Is Question Mandatory : No Calculator : None Response Time : N.A Think Time : N.A Minimum Instruction Time : 0

Correct Marks : 4 Wrong Marks : 1

सूची I का सूची II से मिलान कीजिए

सूची I रेलवे जोन (मण्डल)		सूची II	
A.	उत्तरी	I.	सिकन्दरबाद
B.	उत्तर मध्य (नोर्थ सेन्ट्रल)	II.	मुम्बई (चर्च गेट)
C.	दक्षिण मध्य (साउथ सेन्ट्रल)	III.	नई दिल्ली
D.	पश्चिमी	IV.	इलाहाबाद

निम्नलिखित विकल्पों में से सही उत्तर का चयन कीजिए :

1. A-III B-IV C-I D-II
2. A-IV B-III C-II D-I
3. A-IV B-II C-III D-I
4. A-III B-I C-IV D-II

Options :

686340195937. 1
686340195938. 2
686340195939. 3
686340195940. 4

Question Number : 86 Question Id : 68634049601 Question Type : MCQ Option Shuffling : No Is Question Mandatory : No Calculator : None Response Time : N.A Think Time : N.A Minimum Instruction Time : 0

Correct Marks : 4 Wrong Marks : 1

Match List I with List II

Veda		Brahmanas	
A.	Rig Veda	I.	Gopatha
B.	Yajur Veda	II.	Panchvisha
C.	Sam Veda	III.	Kaushiti ki
D.	Atharva Veda	IV.	Shatapatha

Choose the correct answer from the options given below:

1. A-III B-IV C-II D-I
2. A-II B-III C-I D-II
3. A-II B-IV C-III D-I
4. A-IV B-III C-II D-I

Options :

686340195941. 1
686340195942. 2
686340195943. 3

686340195944. 4

Question Number : 86 Question Id : 68634049601 Question Type : MCQ Option Shuffling : No Is Question Mandatory :
No Calculator : None Response Time : N.A Think Time : N.A Minimum Instruction Time : 0
Correct Marks : 4 Wrong Marks : 1

सूची I का सूची II से मिलान कीजिए

सूची I वेद		सूची II ब्राम्हण	
A.	ऋगवेद	I.	गोपथ
B.	यजुर्वेद	II.	पंचविंश
C.	साम वेद	III.	कौशीतिकी
D.	अथर्व वेद	IV.	शतपथ

निम्नलिखित विकल्पों में से सही उत्तर का चयन कीजिए :

1. A-III B-IV C-II D-I
2. A-II B-III C-I D-II
3. A-II B-IV C-III D-I
4. A-IV B-III C-II D-I

Options :

686340195941. 1
686340195942. 2
686340195943. 3
686340195944. 4

Question Number : 87 Question Id : 68634049602 Question Type : MCQ Option Shuffling : No Is Question Mandatory :
No Calculator : None Response Time : N.A Think Time : N.A Minimum Instruction Time : 0
Correct Marks : 4 Wrong Marks : 1

History repeats itself , first as tragedy , second as farce, is a famous quote of

1. Plato
2. Hegel
3. Karl Marx
4. E.H Carr

Options :

686340195945. 1
686340195946. 2
686340195947. 3
686340195948. 4

Question Number : 87 Question Id : 68634049602 Question Type : MCQ Option Shuffling : No Is Question Mandatory :
No Calculator : None Response Time : N.A Think Time : N.A Minimum Instruction Time : 0
Correct Marks : 4 Wrong Marks : 1

'इतिहास अपने आपको प्रथमतः त्रासदी के रूप में और द्वितीयतः प्रहसन के रूप में दोहराता है' यह प्रसिद्ध उद्धरण किसका है?

1. प्लेटो
2. हेगल
3. कार्ल मार्क्स
4. ई. एच. कार

Options :

686340195945. 1
686340195946. 2
686340195947. 3
686340195948. 4

Question Number : 88 Question Id : 68634049603 Question Type : MCQ Option Shuffling : No Is Question Mandatory : No Calculator : None Response Time : N.A Think Time : N.A Minimum Instruction Time : 0 Correct Marks : 4 Wrong Marks : 1

According to citizen Act 1955, an Indian citizen may lose either citizenship through

- A. Naturalisation
- B. Renunciation
- C. Registration
- D. Termination
- E. Deprivation

Choose the **correct answer** from the options given below:

1. A, B and D only
2. B, D and E only
3. B, C and D only
4. C, D and E only

Options :

686340195949. 1
686340195950. 2
686340195951. 3
686340195952. 4

Question Number : 88 Question Id : 68634049603 Question Type : MCQ Option Shuffling : No Is Question Mandatory : No Calculator : None Response Time : N.A Think Time : N.A Minimum Instruction Time : 0 Correct Marks : 4 Wrong Marks : 1

नागरिक अधिनियम 1955 के अनुसार कोई भारतीय किस कारण से अपनी नागरिकता गंवा सकता है?

- A. नागरिकीकरण
- B. त्याग
- C. पंजीकरण
- D. समाप्ति (समापन)
- E. बंचन

नीचे दिए गए विकल्पों में से **सही उत्तर** का चयन कीजिए:

1. केवल A, B और D
2. केवल B, D और E
3. केवल B, C और D
4. केवल C, D और E

Options :

- 686340195949. 1
- 686340195950. 2
- 686340195951. 3
- 686340195952. 4

Question Number : 89 Question Id : 68634049604 Question Type : MCQ Option Shuffling : No Is Question Mandatory : No Calculator : None Response Time : N.A Think Time : N.A Minimum Instruction Time : 0 Correct Marks : 4 Wrong Marks : 1

Arrange the sequence of the events of the disintegration of the Soviet union in accordance of their chronological order, the oldest one comes first

- A. The communist party hardiness stage an abortive coup against Gorbachev
- B. Mikhail Gorbachev elected as the General Secretary of the Communist Party of the Soviet Union
- C. Independence movement begins in Lithuania, later spreads to Estonia and Latvia
- D. Gorbachev resigns as the President of the Soviet Union
- E. Soviet Union declares that the Warsaw pact members are free to decide their own futures

Choose the **correct answer** from the options given below:

1. B, C, E, A, D
2. D, B, C, A, E
3. E, B, D, C, A
4. B, D, C, A, E

Options :

- 686340195953. 1
- 686340195954. 2
- 686340195955. 3
- 686340195956. 4

Question Number : 89 Question Id : 68634049604 Question Type : MCQ Option Shuffling : No Is Question Mandatory : No Calculator : None Response Time : N.A Think Time : N.A Minimum Instruction Time : 0 Correct Marks : 4 Wrong Marks : 1

सोवियत संघ के विघटन की घटनाओं को उनके कालाक्रमानुसार उस अनुक्रम में व्यवस्थित कीजिए, जिसमें प्राचीनता को प्रथम में रखते हुए आगे बढ़ें

- A. साम्यवादी पार्टी के कट्टरपंथियों ने गोर्बाचेव के विरुद्ध एक निष्फल क्रांति की।
- B. मिखाईल गोर्बाचेव सोवियत संघ की साम्यवादी पार्टी के महासचिव निर्वाचित किए गए
- C. लिथुआनीया में स्वतंत्रता आंदोलन आरंभ हुआ, जिसके बाद यह एस्टोनिया और लातविया में फैल गया
- D. गोर्बाचेव ने सोवियत संघ के राष्ट्रपति पद से त्यागपत्र दे दिया
- E. सोवियत संघ ने घोषणा की कि वारसा पैक्ट के सदस्य देश स्वयं अपना भविष्य तय करने के लिए स्वतंत्र हैं।

नीचे दिए गए विकल्पों में से **सही उत्तर** का चयन कीजिए:

- 1. B, C, E, A, D
- 2. D, B, C, A, E
- 3. E, B, D, C, A
- 4. B, D, C, A, E

Options :

- 686340195953. 1
- 686340195954. 2
- 686340195955. 3
- 686340195956. 4

Question Number : 90 Question Id : 68634049605 Question Type : MCQ Option Shuffling : No Is Question Mandatory : No Calculator : None Response Time : N.A Think Time : N.A Minimum Instruction Time : 0 Correct Marks : 4 Wrong Marks : 1

Why do we need Art Education?

- 1. It turns one into a work procrastinator
- 2. It makes one feel connected to the world around him/her
- 3. It turns one in to a follower of great ideas
- 4. It ensures that one does not waste his time in books

Options :

- 686340195957. 1
- 686340195958. 2
- 686340195959. 3
- 686340195960. 4

Question Number : 90 Question Id : 68634049605 Question Type : MCQ Option Shuffling : No Is Question Mandatory : No Calculator : None Response Time : N.A Think Time : N.A Minimum Instruction Time : 0 Correct Marks : 4 Wrong Marks : 1

हमारे लिए कला- शिक्षा क्यों आवश्यक है?

1. यह व्यक्ति को एक कार्य (चिरकारी वर्क) प्रोफेस्सिनेटर के रूप में परिवर्तित करती है।
2. यह व्यक्ति को उसके इर्द-गिर्द के लोक से संयोजित होने का अहसास देती है
3. यह व्यक्ति को महान विचारों के अनुयायी के रूप में परिवर्तित करती है
4. यह सुनिश्चित करती है कि व्यक्ति अपनी पुस्तकों में समय बर्बाद न करे

Options :

686340195957. 1
686340195958. 2
686340195959. 3
686340195960. 4

Question Number : 91 Question Id : 68634049606 Question Type : MCQ Option Shuffling : No Is Question Mandatory : No Calculator : None Response Time : N.A Think Time : N.A Minimum Instruction Time : 0 Correct Marks : 4 Wrong Marks : 1

Theatre can teach children the very fundaments of

1. Acting
2. Ingression
3. Teamwork
4. Egresses

Options :

686340195961. 1
686340195962. 2
686340195963. 3
686340195964. 4

Question Number : 91 Question Id : 68634049606 Question Type : MCQ Option Shuffling : No Is Question Mandatory : No Calculator : None Response Time : N.A Think Time : N.A Minimum Instruction Time : 0 Correct Marks : 4 Wrong Marks : 1

थिएटर (नाट्यशाला) बच्चों को किसकी नितांत मूलभूत बातों का शिक्षण दे सकता है?

1. अभिनय
2. अंतर्गमन (इन्ग्रेसन)
3. टीम कार्य
4. प्रवेश (इग्रेसस)

Options :

686340195961. 1
686340195962. 2
686340195963. 3
686340195964. 4

**Question Number : 92 Question Id : 68634049607 Question Type : MCQ Option Shuffling : No Is Question Mandatory :
No Calculator : None Response Time : N.A Think Time : N.A Minimum Instruction Time : 0**

Correct Marks : 4 Wrong Marks : 1

Dance education is an area of interest because many scholars believe that dance education promotes the aesthetic education of children, which is important for the growth of students.

1. Practical
2. Social
3. Communal
4. Academic

Options :

686340195965. 1
686340195966. 2
686340195967. 3
686340195968. 4

**Question Number : 92 Question Id : 68634049607 Question Type : MCQ Option Shuffling : No Is Question Mandatory :
No Calculator : None Response Time : N.A Think Time : N.A Minimum Instruction Time : 0**

Correct Marks : 4 Wrong Marks : 1

नृत्य शिक्षा रुचि का एक क्षेत्र है क्योंकि अनेक विद्वानों का विश्वास है कि नृत्य की शिक्षा बच्चों की सौंदर्य परक शिक्षा को प्रोत्साहित करती है, जो विद्यार्थियों के _____ विकास के लिए महत्वपूर्ण हैं।

1. व्यवहारिक
2. सामाजिक
3. सांप्रदायिक (कॉम्युनल)
4. शैषिक

Options :

686340195965. 1
686340195966. 2
686340195967. 3
686340195968. 4

**Question Number : 93 Question Id : 68634049608 Question Type : MCQ Option Shuffling : No Is Question Mandatory :
No Calculator : None Response Time : N.A Think Time : N.A Minimum Instruction Time : 0**

Correct Marks : 4 Wrong Marks : 1

The term Craft is derived from Anglo-Saxan word Croeft which means:

1. Beauty and Grace
2. Strength and Skills
3. Creation and Value
4. Meaning and work

Options :

686340195969. 1
686340195970. 2
686340195971. 3
686340195972. 4

Question Number : 93 Question Id : 68634049608 Question Type : MCQ Option Shuffling : No Is Question Mandatory : No Calculator : None Response Time : N.A Think Time : N.A Minimum Instruction Time : 0 Correct Marks : 4 Wrong Marks : 1

'क्राफ्ट' पद एंग्लो - सैक्सन शब्द 'क्रोइफ्ट' से प्राप्त किया गया है उसका अर्थ क्या है ?

1. सौंदर्य और शालीनता
2. शक्ति और कौशल
3. सर्जन और मूल्य
4. अर्थ और कार्य

Options :

686340195969. 1
686340195970. 2
686340195971. 3
686340195972. 4

Question Number : 94 Question Id : 68634049609 Question Type : MCQ Option Shuffling : No Is Question Mandatory : No Calculator : None Response Time : N.A Think Time : N.A Minimum Instruction Time : 0 Correct Marks : 4 Wrong Marks : 1

An analysis of the mortality and nutritional indicator from the pre-school, primary, secondary and senior secondary levels show that under nutrition and _____ are the major health problems faced by majority of children in our country.

1. Under-intelligence
2. Communicable disease
3. Mental Challenges
4. Physical disabilities

Options :

- 686340195973. 1
- 686340195974. 2
- 686340195975. 3
- 686340195976. 4

Question Number : 94 Question Id : 68634049609 Question Type : MCQ Option Shuffling : No Is Question Mandatory : No Calculator : None Response Time : N.A Think Time : N.A Minimum Instruction Time : 0

Correct Marks : 4 Wrong Marks : 1

विद्यालय की पूर्व प्राथमिक, उच्च माध्यमिक और उच्चतर माध्यमिक स्तरों की मृत्यु संख्या दर और पोषण संबंधी संकेतक का विश्लेषण दर्शाता है कि हमारे देश में बच्चों द्वारा सामना की जाने वाली प्रमुख स्वास्थ्य समस्या अल्प-पोषण और _____ हैं।

- 1. अल्प-बद्धिमता
- 2. संक्रामक रोग
- 3. मानसिक चुनौतियां
- 4. शारीरिक निःशक्तताएँ

Options :

- 686340195973. 1
- 686340195974. 2
- 686340195975. 3
- 686340195976. 4

Question Number : 95 Question Id : 68634049610 Question Type : MCQ Option Shuffling : No Is Question Mandatory : No Calculator : None Response Time : N.A Think Time : N.A Minimum Instruction Time : 0

Correct Marks : 4 Wrong Marks : 1

It is important for the teachers to know that NFHS S (2019-2020) data show that _____ percent of children are underweight in India.

- 1. 12 Percent
- 2. 15 Percent
- 3. 35 Percent
- 4. 32 Percent

Options :

- 686340195977. 1
- 686340195978. 2
- 686340195979. 3
- 686340195980. 4

Question Number : 95 Question Id : 68634049610 Question Type : MCQ Option Shuffling : No Is Question Mandatory : No Calculator : None Response Time : N.A Think Time : N.A Minimum Instruction Time : 0

Correct Marks : 4 Wrong Marks : 1

शिक्षकों के लिए यह जानना महत्वपूर्ण है कि NFHS S (2019-2020) के आंकड़े दर्शाते हैं कि भारत में _____ प्रतिशत बच्चे कम वज़नी हैं।

1. 12 प्रतिशत

2. 15 प्रतिशत

3. 35 प्रतिशत

4. 32 प्रतिशत

Options :

686340195977. 1

686340195978. 2

686340195979. 3

686340195980. 4

Question Number : 96 Question Id : 68634049611 Question Type : MCQ Option Shuffling : No Is Question Mandatory : No Calculator : None Response Time : N.A Think Time : N.A Minimum Instruction Time : 0

Correct Marks : 4 Wrong Marks : 1

It is important for the teachers to understand that _____ is a multidimensional concept and is shaped by biological, economic social and political factor.

1. Mortality

2. Curriculum

3. Health

4. Time table

Options :

686340195981. 1

686340195982. 2

686340195983. 3

686340195984. 4

Question Number : 96 Question Id : 68634049611 Question Type : MCQ Option Shuffling : No Is Question Mandatory : No Calculator : None Response Time : N.A Think Time : N.A Minimum Instruction Time : 0

Correct Marks : 4 Wrong Marks : 1

शिक्षकों के लिए यह समझना महत्वपूर्ण है कि _____ एक बहुआयामी अवधारणा है और जैविक, आर्थिक सामाजिक और राजनीतिक कारकों से आकार ग्रहण करती है।

1. मृत्यु संख्या / दर
2. पाठ्यक्रम
3. स्वास्थ्य
4. समय तालिका

Options :

686340195981. 1
686340195982. 2
686340195983. 3
686340195984. 4

Question Number : 97 Question Id : 68634049612 Question Type : MCQ Option Shuffling : No Is Question Mandatory : No Calculator : None Response Time : N.A Think Time : N.A Minimum Instruction Time : 0

Correct Marks : 4 Wrong Marks : 1

In a Comprehensive school health programme, mid day meal and medical check ups must be included and health education must address the

1. Age specific concerns
2. Exam specific concerns
3. Community specific concern
4. State specific concerns

Options :

686340195985. 1
686340195986. 2
686340195987. 3
686340195988. 4

Question Number : 97 Question Id : 68634049612 Question Type : MCQ Option Shuffling : No Is Question Mandatory : No Calculator : None Response Time : N.A Think Time : N.A Minimum Instruction Time : 0

Correct Marks : 4 Wrong Marks : 1

विद्यालय के एक व्यापक स्वास्थ्य कार्यक्रम में मध्याह्न भोजन और चिकित्सीय जांच अवश्य सम्मिलित किए जाने चाहिए और स्वास्थ्य शिक्षा-को पर ध्यान देना चाहिए।

1. आयु- विशिष्ट सरोकार
2. परीक्षा - विशिष्ट सरोकार
3. समुदाय - विशिष्ट सरोकार
4. राज्य - विशिष्ट सरोकार

Options :

686340195985. 1
686340195986. 2
686340195987. 3
686340195988. 4

Question Number : 98 Question Id : 68634049613 Question Type : MCQ Option Shuffling : No Is Question Mandatory : No Calculator : None Response Time : N.A Think Time : N.A Minimum Instruction Time : 0

Correct Marks : 4 Wrong Marks : 1

National programme of Nutritional support of primary education was launched in 1995 under which cooked Mid Day Meals may meals were to be introduced to all Government and Government aided primary schools, however it became possible

1. after the supreme courts judgement given in 2001
2. after the money was released to run the programme in 2001
3. In 2000 when private donors made hefty donation
4. In 2000 when India received money from the UN

Options :

686340195989. 1
686340195990. 2
686340195991. 3
686340195992. 4

Question Number : 98 Question Id : 68634049613 Question Type : MCQ Option Shuffling : No Is Question Mandatory : No Calculator : None Response Time : N.A Think Time : N.A Minimum Instruction Time : 0

Correct Marks : 4 Wrong Marks : 1

प्राथमिक शिक्षा के संबंध में राष्ट्रीय पोषण कार्यक्रम 1995 में आरंभ किया गया था, जिसके अंतर्गत सभी सरकारी और सरकारी सहायता-प्राप्त प्राथमिक विद्यालयों में पका हुआ मध्याह्न भोजन प्रदान किया जाना था। लेकिन यह किसके बाद संभव हुआ?

1. उच्चतम न्यायालय द्वारा 2001 में निर्णय के बाद
2. उयुक्त कार्यक्रम को चलाने के लिए 2001 में धनराशि जारी करने के बाद
3. निजी दानदाताओं द्वारा 2000 में भारी भरकम धनराशि देने पर
4. भारत द्वारा 2000 में संयुक्त राष्ट्र से धनराशि प्राप्त करने पर

Options :

- 686340195989. 1
- 686340195990. 2
- 686340195991. 3
- 686340195992. 4

Question Number : 99 Question Id : 68634049614 Question Type : MCQ Option Shuffling : No Is Question Mandatory : No Calculator : None Response Time : N.A Think Time : N.A Minimum Instruction Time : 0

Correct Marks : 4 Wrong Marks : 1

The Song 'Humko Mann Ki Shakti Dena', popularly sung in morning assembly in school was written by:

1. Shailendra
2. Gulzar
3. Kaifi Azmi
4. Sahir Ludhianvi

Options :

- 686340195993. 1
- 686340195994. 2
- 686340195995. 3
- 686340195996. 4

Question Number : 99 Question Id : 68634049614 Question Type : MCQ Option Shuffling : No Is Question Mandatory : No Calculator : None Response Time : N.A Think Time : N.A Minimum Instruction Time : 0

Correct Marks : 4 Wrong Marks : 1

विद्यालयों में प्रातःकालीन सभा में गाया जाने वाला गीत 'हमको मन की शक्ति देना' किसके द्वारा लिखित है

1. शैलेन्द्र
2. गुलज़ार
3. कैफ़ी आज़मी
4. साहिर लुधियानवी

Options :

686340195993. 1
686340195994. 2
686340195995. 3
686340195996. 4

Question Number : 100 Question Id : 68634049615 Question Type : MCQ Option Shuffling : No Is Question Mandatory : No Calculator : None Response Time : N.A Think Time : N.A Minimum Instruction Time : 0

Correct Marks : 4 Wrong Marks : 1

Who had coined the concept (procedure) of Body Mass Index (BMI)?

1. Pierre Baron de Coubertin
2. Adolph Qeutelet
3. WHO
4. Indian Olympic Association (IOA)

Options :

686340195997. 1
686340195998. 2
686340195999. 3
686340196000. 4

Question Number : 100 Question Id : 68634049615 Question Type : MCQ Option Shuffling : No Is Question Mandatory : No Calculator : None Response Time : N.A Think Time : N.A Minimum Instruction Time : 0

Correct Marks : 4 Wrong Marks : 1

किसने 'बॉडी मास इन्डेक्स' (बी. एम. आई) की अवधारणा (कार्यविधि) का रचना की थी?

1. पियरे बैरन डि काउबर्टिन
2. एडोल्फ क्विटलेट
3. डब्ल्यू. एच. ओ
4. इंडियन ओलिम्पिक एसोसिएशन (आई. ओ. ए)

Options :

686340195997. 1

686340195998. 2

686340195999. 3

686340196000. 4