

National Testing Agency

Question Paper Name : MPT Hin 30th June 2023 Shift 3
Subject Name : MPT Hin
Creation Date : 2023-06-30 23:01:10
Duration : 120
Total Marks : 400
Display Marks: Yes

MPT

Group Number : 1
Group Id : 686340423
Group Maximum Duration : 0
Group Minimum Duration : 120
Show Attended Group? : No
Edit Attended Group? : No
Break time : 0
Group Marks : 400
Is this Group for Examiner? : No
Examiner permission : Cant View
Show Progress Bar? : No

Part A

Section Id : 686340841
Section Number : 1
Section type : Online
Mandatory or Optional : Mandatory
Number of Questions : 21
Number of Questions to be attempted : 21
Section Marks : 100
Enable Mark as Answered Mark for Review and Clear Response : Yes
Maximum Instruction Time : 0
Sub-Section Number : 1
Sub-Section Id : 6863401400
Question Shuffling Allowed : No
Is Section Default? : null

**Question Id : 68634042736 Question Type : COMPREHENSION Sub Question Shuffling Allowed : Yes Group
Comprehension Questions : No Question Pattern Type : NonMatrix Calculator : None Response Time : N.A Think Time
: N.A Minimum Instruction Time : 0
Question Numbers : (1 to 5)
Question Label : Comprehension**

पोथी- पढ़ि-पढ़ि जग मुवा, पंडित भया नं कोय।
ढाई आखर प्रेम के, पढ़ै सो पंडित होय।।
प्रेम न बाड़ी ऊपजै, प्रेम न हाट बिकाय।
राजा परजा जेहि रुचै, सीस देइ ले जाय।।

Sub questions

Question Number : 1 Question Id : 68634042737 Question Type : MCQ Option Shuffling : No Is Question Mandatory : No Calculator : None Response Time : N.A Think Time : N.A Minimum Instruction Time : 0 Correct Marks : 4 Wrong Marks : 1

प्रस्तुत पंक्तियों के कवि तथा काल का सही चयन कीजिए।

1. तुलसीदास, भक्तिकाल
2. कबीरदास, भक्तिकाल
3. कबीरदास, रीतिकाल
4. कबीरदास, आदिकाल

Options :

686340168801. 1
686340168802. 2
686340168803. 3
686340168804. 4

Question Number : 2 Question Id : 68634042738 Question Type : MCQ Option Shuffling : No Is Question Mandatory : No Calculator : None Response Time : N.A Think Time : N.A Minimum Instruction Time : 0 Correct Marks : 4 Wrong Marks : 1

नीचे दो कथन दिए गए हैं: एक **अभिकथन A** के रूप में लिखित है तो दूसरा उसके **कारण R** के रूप में हैं:

अभिकथन A : सारा जग पोथी पढ़-पढ़ कर अमर हो गया है।

कारण R : शास्त्रों का अध्ययन करने से कोई भी मनुष्य विद्वान नहीं बन सकता। वास्तविक विद्वता तो समाज में परस्पर प्रेम स्वं भाईचारे की भावना से आती है।

उपरोक्त कथन के अलोक में, नीचे दिए गए विकल्पों में से सबसे उपयुक्त उत्तर का चयन कीजिए:

1. A और R दोनों सही हैं और R, A की सही व्याख्या है
2. A और R दोनों सही हैं और R, A की सही व्याख्या नहीं है
3. A सही है लेकिन R सही नहीं है
4. A सही नहीं है लेकिन R सही है

Options :

686340168805. 1
686340168806. 2
686340168807. 3
686340168808. 4

Question Number : 3 Question Id : 68634042739 Question Type : MCQ Option Shuffling : No Is Question Mandatory : No Calculator : None Response Time : N.A Think Time : N.A Minimum Instruction Time : 0 Correct Marks : 4 Wrong Marks : 1

नीचे दो कथन दिए गए हैं: एक अभिकथन A के रूप में लिखित है तो दूसरा उसके कारण R के रूप में है;

अभिकथन A : प्रेम न बाड़ी ऊपजै, प्रेम न हाट बिकाय।
राजा परजा जेहि रुचै, सीस देइ ले जाय।।

कारण R : गुरु कुम्हार है और शिष्य घड़े के समान है। गुरु निरंतर अपने शिष्य के गुणों का विकास करता है। जैसे कुम्हार, मिट्टी को आकार देकर घड़े में परिवर्तित करता है वैसे ही गुरु भी शिष्य को ज्ञानवान बनाते हैं।

उपरोक्त कथन के अलोक में, नीचे दिए गए विकल्पों में से सबसे उपयुक्त उत्तर का चयन कीजिए:

1. A और R दोनों सत्य हैं और R, A की सही व्याख्या है
2. A और R दोनों सत्य हैं और R, A की सही व्याख्या नहीं है
3. A सत्य है लेकिन R असत्य है
4. A असत्य है लेकिन R सत्य है

Options :

686340168809. 1
686340168810. 2
686340168811. 3
686340168812. 4

Question Number : 4 Question Id : 68634042740 Question Type : MCQ Option Shuffling : No Is Question Mandatory : No Calculator : None Response Time : N.A Think Time : N.A Minimum Instruction Time : 0 Correct Marks : 4 Wrong Marks : 1

निम्नलिखित कथनों में से सही विकल्प का चयन कीजिए।

- A. पढ़ि-पढ़ि में पुनरावृत्ति प्रकाश अलंकार है।
- B. चौपाई छंद की व्यंजना की गई है।
- C. प्रस्तुत पंक्तियों की भाषा अवधी है।
- D. प्रस्तुत पंक्तियों में निर्गुण ईश्वर पर बल दिया है।
- E. प्रस्तुत पंक्तियों में प्रेम पर बल दिया गया है।

नीचे दिए गए विकल्पों में से सही उत्तर का चयन कीजिए:

- 1. A, B और C
- 2. B और D
- 3. A और E
- 4. A, D और E

Options :

- 686340168813. 1
- 686340168814. 2
- 686340168815. 3
- 686340168816. 4

Question Number : 5 Question Id : 68634042741 Question Type : MCQ Option Shuffling : No Is Question Mandatory : No Calculator : None Response Time : N.A Think Time : N.A Minimum Instruction Time : 0 Correct Marks : 4 Wrong Marks : 1

नीचे दो कथन दिए गए हैं:

कथन I : प्रेम न बाड़ी ऊपजै का अर्थ है कि प्रेम किसी भी खेत में सरलता में पैदा हो सकता है।

कथन II : राजा और प्रजा कोई भी सरलता से प्रेम को प्राप्त कर सकते हैं।

उपरोक्त कथन के अलोक में, नीचे दिए गए विकल्पों में से सबसे उपयुक्त उत्तर का चयन कीजिए:

- 1. कथन I और II दोनों सत्य हैं
- 2. कथन I और II दोनों असत्य हैं
- 3. कथन I सत्य है, लेकिन कथन II असत्य है
- 4. कथन I असत्य है, लेकिन कथन II सत्य है

Options :

- 686340168817. 1
- 686340168818. 2
- 686340168819. 3
- 686340168820. 4

Question Id : 68634042736 Question Type : COMPREHENSION Sub Question Shuffling Allowed : Yes Group Comprehension Questions : No Question Pattern Type : NonMatrix Calculator : None Response Time : N.A Think Time

: N.A Minimum Instruction Time : 0

Question Numbers : (1 to 5)

Question Label : Comprehension

पोथी- पढ़ि-पढ़ि जग मुवा, पंडित भया नं कोय।

ढाई आखर प्रेम के, पढ़ै सो पंडित होय।।

प्रेम न बाड़ी ऊपजै, प्रेम न हाट बिकाय।

राजा परजा जेहि रुचै, सीस देइ ले जाय।।

Sub questions

Question Number : 1 Question Id : 68634042737 Question Type : MCQ Option Shuffling : No Is Question Mandatory : No Calculator : None Response Time : N.A Think Time : N.A Minimum Instruction Time : 0

Correct Marks : 4 Wrong Marks : 1

प्रस्तुत पंक्तियों के कवि तथा काल का सही चयन कीजिए।

1. तुलसीदास, भक्तिकाल
2. कबीरदास, भक्तिकाल
3. कबीरदास, रीतिकाल
4. कबीरदास, आदिकाल

Options :

686340168801. 1

686340168802. 2

686340168803. 3

686340168804. 4

Question Number : 2 Question Id : 68634042738 Question Type : MCQ Option Shuffling : No Is Question Mandatory : No Calculator : None Response Time : N.A Think Time : N.A Minimum Instruction Time : 0

Correct Marks : 4 Wrong Marks : 1

नीचे दो कथन दिए गए हैं: एक **अभिकथन A** के रूप में लिखित है तो दूसरा उसके **कारण R** के रूप में है:

अभिकथन A : सारा जग पोथी पढ़-पढ़ कर अमर हो गया है।

कारण R : शास्त्रों का अध्ययन करने से कोई भी मनुष्य विद्वान नहीं बन सकता। वास्तविक विद्वता तो समाज में परस्पर प्रेम स्वं भाईचारे की भावना से आती है।

उपरोक्त कथन के अलोक में, नीचे दिए गए विकल्पों में से सबसे उपयुक्त उत्तर का चयन कीजिए:

1. A और R दोनों सही हैं और R, A की सही व्याख्या है
2. A और R दोनों सही हैं और R, A की सही व्याख्या नहीं है
3. A सही है लेकिन R सही नहीं है
4. A सही नहीं है लेकिन R सही है

Options :

- 686340168805. 1
- 686340168806. 2
- 686340168807. 3
- 686340168808. 4

Question Number : 3 Question Id : 68634042739 Question Type : MCQ Option Shuffling : No Is Question Mandatory : No Calculator : None Response Time : N.A Think Time : N.A Minimum Instruction Time : 0

Correct Marks : 4 Wrong Marks : 1

नीचे दो कथन दिए गए हैं: एक **अभिकथन A** के रूप में लिखित है तो दूसरा उसके **कारण R** के रूप में है:

अभिकथन A : प्रेम न बाड़ी ऊपजै, प्रेम न हाट बिकाय।
राजा परजा जेहि रुचै, सीस देइ ले जाय।।

कारण R : गुरु कुम्हार है और शिष्य घड़े के समान है। गुरु निरंतर अपने शिष्य के गुणों का विकास करता है। जैसे कुम्हार, मिट्टी को आकार देकर घड़े में परिवर्तित करता है वैसे ही गुरु भी शिष्य को ज्ञानवान बनाते हैं।

उपरोक्त कथन के अलोक में, नीचे दिए गए विकल्पों में से सबसे उपयुक्त उत्तर का चयन कीजिए:

1. A और R दोनों सत्य हैं और R, A की सही व्याख्या है
2. A और R दोनों सत्य हैं और R, A की सही व्याख्या नहीं है
3. A सत्य है लेकिन R असत्य है
4. A असत्य है लेकिन R सत्य है

Options :

- 686340168809. 1
- 686340168810. 2
- 686340168811. 3
- 686340168812. 4

Question Number : 4 Question Id : 68634042740 Question Type : MCQ Option Shuffling : No Is Question Mandatory : No Calculator : None Response Time : N.A Think Time : N.A Minimum Instruction Time : 0

Correct Marks : 4 Wrong Marks : 1

निम्नलिखित कथनों में से सही विकल्प का चयन कीजिए।

- A. पढ़ि-पढ़ि में पुनरावृत्ति प्रकाश अलंकार है।
- B. चौपाई छंद की व्यंजना की गई है।
- C. प्रस्तुत पंक्तियों की भाषा अवधी है।
- D. प्रस्तुत पंक्तियों में निर्गुण ईश्वर पर बल दिया है।
- E. प्रस्तुत पंक्तियों में प्रेम पर बल दिया गया है।

नीचे दिए गए विकल्पों में से सही उत्तर का चयन कीजिए:

- 1. A, B और C
- 2. B और D
- 3. A और E
- 4. A, D और E

Options :

- 686340168813. 1
- 686340168814. 2
- 686340168815. 3
- 686340168816. 4

Question Number : 5 Question Id : 68634042741 Question Type : MCQ Option Shuffling : No Is Question Mandatory : No Calculator : None Response Time : N.A Think Time : N.A Minimum Instruction Time : 0

Correct Marks : 4 Wrong Marks : 1

नीचे दो कथन दिए गए हैं:

कथन I : प्रेम न बाड़ी ऊपजै का अर्थ है कि प्रेम किसी भी खेत में सरलता में पैदा हो सकता है।

कथन II : राजा और प्रजा कोई भी सरलता से प्रेम को प्राप्त कर सकते हैं।

उपरोक्त कथन के अलोक में, नीचे दिए गए विकल्पों में से सबसे उपयुक्त उत्तर का चयन कीजिए:

- 1. कथन I और II दोनों सत्य हैं
- 2. कथन I और II दोनों असत्य हैं
- 3. कथन I सत्य है, लेकिन कथन II असत्य है
- 4. कथन I असत्य है, लेकिन कथन II सत्य है

Options :

- 686340168817. 1
- 686340168818. 2
- 686340168819. 3
- 686340168820. 4

Sub-Section Number :

Sub-Section Id : 6863401401

Question Shuffling Allowed : Yes

Is Section Default? : null

Question Number : 6 Question Id : 68634042742 Question Type : MCQ Option Shuffling : No Is Question Mandatory : No Calculator : None Response Time : N.A Think Time : N.A Minimum Instruction Time : 0

Correct Marks : 4 Wrong Marks : 1

निम्नलिखित में से महाप्राण व्यंजन चिन्हित कीजिए:

1. क

2. ग

3. थ

4. ट

Options :

686340168821. 1

686340168822. 2

686340168823. 3

686340168824. 4

Question Number : 6 Question Id : 68634042742 Question Type : MCQ Option Shuffling : No Is Question Mandatory : No Calculator : None Response Time : N.A Think Time : N.A Minimum Instruction Time : 0

Correct Marks : 4 Wrong Marks : 1

निम्नलिखित में से महाप्राण व्यंजन चिन्हित कीजिए:

1. क

2. ग

3. थ

4. ट

Options :

686340168821. 1

686340168822. 2

686340168823. 3

686340168824. 4

Question Number : 7 Question Id : 68634042743 Question Type : MCQ Option Shuffling : No Is Question Mandatory : No Calculator : None Response Time : N.A Think Time : N.A Minimum Instruction Time : 0

Correct Marks : 4 Wrong Marks : 1

जो अव्यय संज्ञा अथवा सर्वनाम के साथ प्रयुक्त होते हैं उन्हें निम्नलिखित में से क्या कहते हैं।

1. संबंध बोधक
2. विशेषण
3. क्रिया विशेषण
4. संबोधन बोधक

Options :

686340168825. 1
686340168826. 2
686340168827. 3
686340168828. 4

Question Number : 7 Question Id : 68634042743 Question Type : MCQ Option Shuffling : No Is Question Mandatory : No Calculator : None Response Time : N.A Think Time : N.A Minimum Instruction Time : 0 Correct Marks : 4 Wrong Marks : 1

जो अव्यय संज्ञा अथवा सर्वनाम के साथ प्रयुक्त होते हैं उन्हें निम्नलिखित में से क्या कहते हैं।

1. संबंध बोधक
2. विशेषण
3. क्रिया विशेषण
4. संबोधन बोधक

Options :

686340168825. 1
686340168826. 2
686340168827. 3
686340168828. 4

Question Number : 8 Question Id : 68634042744 Question Type : MCQ Option Shuffling : No Is Question Mandatory : No Calculator : None Response Time : N.A Think Time : N.A Minimum Instruction Time : 0 Correct Marks : 4 Wrong Marks : 1

निम्नलिखित में से पुल्लिंग शब्द कौन सा है?

1. सरसों
2. सारस
3. मूँग
4. मकई

Options :

686340168829. 1
686340168830. 2
686340168831. 3
686340168832. 4

**Question Number : 8 Question Id : 68634042744 Question Type : MCQ Option Shuffling : No Is Question Mandatory :
No Calculator : None Response Time : N.A Think Time : N.A Minimum Instruction Time : 0
Correct Marks : 4 Wrong Marks : 1**

निम्नलिखित में से पुल्लिंग शब्द कौन सा है?

1. सरसों
2. सारस
3. मूँग
4. मकई

Options :

686340168829. 1
686340168830. 2
686340168831. 3
686340168832. 4

**Question Number : 9 Question Id : 68634042745 Question Type : MCQ Option Shuffling : No Is Question Mandatory :
No Calculator : None Response Time : N.A Think Time : N.A Minimum Instruction Time : 0
Correct Marks : 4 Wrong Marks : 1**

वाक्य में जिसके विषय में कहा जाए उसे क्या कहते हैं?

1. क्रिया
2. विधेय
3. सर्वनाम
4. उद्देश्य

Options :

686340168833. 1
686340168834. 2
686340168835. 3
686340168836. 4

**Question Number : 9 Question Id : 68634042745 Question Type : MCQ Option Shuffling : No Is Question Mandatory :
No Calculator : None Response Time : N.A Think Time : N.A Minimum Instruction Time : 0
Correct Marks : 4 Wrong Marks : 1**

वाक्य में जिसके विषय में कहा जाए उसे क्या कहते हैं?

1. क्रिया
2. विधेय
3. सर्वनाम
4. उद्देश्य

Options :

686340168833. 1
686340168834. 2
686340168835. 3
686340168836. 4

Question Number : 10 Question Id : 68634042746 Question Type : MCQ Option Shuffling : No Is Question Mandatory : No Calculator : None Response Time : N.A Think Time : N.A Minimum Instruction Time : 0

Correct Marks : 4 Wrong Marks : 1

निम्नलिखित में से शुद्ध वाक्य चिन्हित कीजिए:

1. यह मिठाई की ताज़ी दूकान है।
2. सुबह चिड़िया चहचहा रही थी।
3. यह तो आँख से देखा घटना है।
4. क्रोध से विनाश होती है।

Options :

686340168837. 1
686340168838. 2
686340168839. 3
686340168840. 4

Question Number : 10 Question Id : 68634042746 Question Type : MCQ Option Shuffling : No Is Question Mandatory : No Calculator : None Response Time : N.A Think Time : N.A Minimum Instruction Time : 0

Correct Marks : 4 Wrong Marks : 1

निम्नलिखित में से शुद्ध वाक्य चिन्हित कीजिए:

1. यह मिठाई की ताज़ी दूकान है।
2. सुबह चिड़िया चहचहा रही थी।
3. यह तो आँख से देखा घटना है।
4. क्रोध से विनाश होती है।

Options :

686340168837. 1
686340168838. 2
686340168839. 3
686340168840. 4

**Question Number : 11 Question Id : 68634042747 Question Type : MCQ Option Shuffling : No Is Question Mandatory :
No Calculator : None Response Time : N.A Think Time : N.A Minimum Instruction Time : 0
Correct Marks : 4 Wrong Marks : 1**

तीन के पहले 5 गुणजों और पांच के पहले 5 गुणजों का औसत ज्ञात कीजिए।

1. 20
2. 16
3. 12
4. 22

Options :

686340168841. 1
686340168842. 2
686340168843. 3
686340168844. 4

**Question Number : 11 Question Id : 68634042747 Question Type : MCQ Option Shuffling : No Is Question Mandatory :
No Calculator : None Response Time : N.A Think Time : N.A Minimum Instruction Time : 0
Correct Marks : 4 Wrong Marks : 1**

तीन के पहले 5 गुणजों और पांच के पहले 5 गुणजों का औसत ज्ञात कीजिए।

1. 20
2. 16
3. 12
4. 22

Options :

686340168841. 1
686340168842. 2
686340168843. 3
686340168844. 4

**Question Number : 12 Question Id : 68634042748 Question Type : MCQ Option Shuffling : No Is Question Mandatory :
No Calculator : None Response Time : N.A Think Time : N.A Minimum Instruction Time : 0
Correct Marks : 4 Wrong Marks : 1**

सरल कीजिए

$$0.9 - [2.3 - 3.2 - (7.3 - 5.4 - 3.7)]$$

1. 0.18

2. 0

3. 1.8

4. -2.6

Options :

686340168845. 1

686340168846. 2

686340168847. 3

686340168848. 4

Question Number : 12 Question Id : 68634042748 Question Type : MCQ Option Shuffling : No Is Question Mandatory : No Calculator : None Response Time : N.A Think Time : N.A Minimum Instruction Time : 0

Correct Marks : 4 Wrong Marks : 1

सरल कीजिए

$$0.9 - [2.3 - 3.2 - (7.3 - 5.4 - 3.7)]$$

1. 0.18

2. 0

3. 1.8

4. -2.6

Options :

686340168845. 1

686340168846. 2

686340168847. 3

686340168848. 4

Question Number : 13 Question Id : 68634042749 Question Type : MCQ Option Shuffling : No Is Question Mandatory : No Calculator : None Response Time : N.A Think Time : N.A Minimum Instruction Time : 0

Correct Marks : 4 Wrong Marks : 1

किसी वर्ग का परिमाण एक आयत के परिमाण के समान है. यदि आयत की भुजाओं में 17:11 का अनुपात है, तो वर्ग और आयत के क्षेत्रफलों में अनुपात ज्ञात कीजिए।

1. 17:11
2. 10:9
3. 114:113
4. 196:187

Options :

686340168849. 1
686340168850. 2
686340168851. 3
686340168852. 4

Question Number : 13 Question Id : 68634042749 Question Type : MCQ Option Shuffling : No Is Question Mandatory : No Calculator : None Response Time : N.A Think Time : N.A Minimum Instruction Time : 0

Correct Marks : 4 Wrong Marks : 1

किसी वर्ग का परिमाण एक आयत के परिमाण के समान है. यदि आयत की भुजाओं में 17:11 का अनुपात है, तो वर्ग और आयत के क्षेत्रफलों में अनुपात ज्ञात कीजिए।

1. 17:11
2. 10:9
3. 114:113
4. 196:187

Options :

686340168849. 1
686340168850. 2
686340168851. 3
686340168852. 4

Question Number : 14 Question Id : 68634042750 Question Type : MCQ Option Shuffling : No Is Question Mandatory : No Calculator : None Response Time : N.A Think Time : N.A Minimum Instruction Time : 0

Correct Marks : 4 Wrong Marks : 1

16% वार्षिक की दर से उधार दी गई किसी राशि पर एक वर्ष के लिए चक्रवृद्धि ब्याज, जब ब्याज प्रति छमाही संयोजित हो रहा है तथा एक वर्ष के लिए साधारण ब्याज में अंतर ₹ 56 है। यह राशि है:

1. ₹ 5,780
2. ₹ 7,805
3. ₹ 7,850
4. ₹ 8,750

Options :

686340168853. 1
686340168854. 2
686340168855. 3
686340168856. 4

Question Number : 14 Question Id : 68634042750 Question Type : MCQ Option Shuffling : No Is Question Mandatory : No Calculator : None Response Time : N.A Think Time : N.A Minimum Instruction Time : 0

Correct Marks : 4 Wrong Marks : 1

16% वार्षिक की दर से उधार दी गई किसी राशि पर एक वर्ष के लिए चक्रवृद्धि ब्याज, जब ब्याज प्रति छमाही संयोजित हो रहा है तथा एक वर्ष के लिए साधारण ब्याज में अंतर ₹ 56 है। यह राशि है:

1. ₹ 5,780
2. ₹ 7,805
3. ₹ 7,850
4. ₹ 8,750

Options :

686340168853. 1
686340168854. 2
686340168855. 3
686340168856. 4

Question Number : 15 Question Id : 68634042751 Question Type : MCQ Option Shuffling : No Is Question Mandatory : No Calculator : None Response Time : N.A Think Time : N.A Minimum Instruction Time : 0

Correct Marks : 4 Wrong Marks : 1

तीन लड़कों की औसत आयु 22 वर्ष है। इनमें से सबसे छोटे की आयु का 8 गुना, अन्य दोनों की आयु के योग का 3 गुना है। उनमें से सबसे बड़े की आयु ज्ञात कीजिए यदि वह सबसे छोटे से 8 वर्ष बड़ा है।

1. 24 वर्ष
2. 25 वर्ष
3. 26 वर्ष
4. 28 वर्ष

Options :

686340168857. 1
686340168858. 2
686340168859. 3
686340168860. 4

Question Number : 15 Question Id : 68634042751 Question Type : MCQ Option Shuffling : No Is Question Mandatory : No Calculator : None Response Time : N.A Think Time : N.A Minimum Instruction Time : 0

Correct Marks : 4 Wrong Marks : 1

तीन लड़कों की औसत आयु 22 वर्ष है। इनमें से सबसे छोटे की आयु का 8 गुना, अन्य दोनों की आयु के योग का 3 गुना है। उनमें से सबसे बड़े की आयु ज्ञात कीजिए यदि वह सबसे छोटे से 8 वर्ष बड़ा है।

1. 24 वर्ष
2. 25 वर्ष
3. 26 वर्ष
4. 28 वर्ष

Options :

686340168857. 1
686340168858. 2
686340168859. 3
686340168860. 4

Question Number : 16 Question Id : 68634042752 Question Type : MCQ Option Shuffling : No Is Question Mandatory : No Calculator : None Response Time : N.A Think Time : N.A Minimum Instruction Time : 0

Correct Marks : 4 Wrong Marks : 1

नीचे दिए गए कथनों का अनुसरण करते हुए दो निष्कर्ष संख्या I और II दी गई है।

कथन : हमारी प्रतिभूतियों के निवेश में बाजार का जोखिम होता है, निवेश करने से पहले अपने निवेश सलाहकार या एजेंट से परामर्श करें।

निष्कर्ष I : किसी को प्रतिभूतियों में निवेश नहीं करना चाहिए।

II : निवेश सलाहकार बाजार जोखिम गणना निश्चित रूप से करते है।

दिए गए कथन में से कौन से निष्कर्ष का अनुसरण कर रहा है पहचान कीजिए:

1. केवल II अनुसरण करता है।
2. केवल I अनुसरण करता है।
3. दोनों I और II अनुसरण करता है।
4. या तो I या II अनुसरण करता है।

Options :

- 686340168861. 1
- 686340168862. 2
- 686340168863. 3
- 686340168864. 4

Question Number : 16 Question Id : 68634042752 Question Type : MCQ Option Shuffling : No Is Question Mandatory : No Calculator : None Response Time : N.A Think Time : N.A Minimum Instruction Time : 0

Correct Marks : 4 Wrong Marks : 1

नीचे दिए गए कथनों का अनुसरण करते हुए दो निष्कर्ष संख्या I और II दी गई है।

कथन : हमारी प्रतिभूतियों के निवेश में बाजार का जोखिम होता है, निवेश करने से पहले अपने निवेश सलाहकार या एजेंट से परामर्श करें।

निष्कर्ष I : किसी को प्रतिभूतियों में निवेश नहीं करना चाहिए।

II : निवेश सलाहकार बाजार जोखिम गणना निश्चित रूप से करते है।

दिए गए कथन में से कौन से निष्कर्ष का अनुसरण कर रहा है पहचान कीजिए:

1. केवल II अनुसरण करता है।
2. केवल I अनुसरण करता है।
3. दोनों I और II अनुसरण करता है।
4. या तो I या II अनुसरण करता है।

Options :

- 686340168861. 1
- 686340168862. 2
- 686340168863. 3

Question Number : 17 Question Id : 68634042753 Question Type : MCQ Option Shuffling : No Is Question Mandatory : No Calculator : None Response Time : N.A Think Time : N.A Minimum Instruction Time : 0 Correct Marks : 4 Wrong Marks : 1

दिए गए आकृति (X) के जल- प्रतिबिंब का सही पता लगाइये

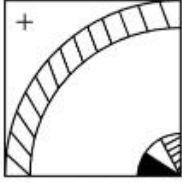
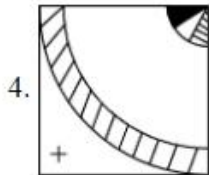
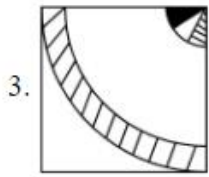
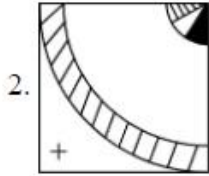
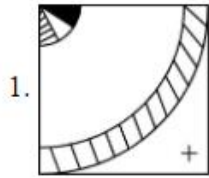


Fig (x)



Options :

- 686340168865. 1
- 686340168866. 2
- 686340168867. 3
- 686340168868. 4

Question Number : 17 Question Id : 68634042753 Question Type : MCQ Option Shuffling : No Is Question Mandatory : No Calculator : None Response Time : N.A Think Time : N.A Minimum Instruction Time : 0 Correct Marks : 4 Wrong Marks : 1

दिए गए आकृति (x) के जल- प्रतिबिंब का सही पता लगाइये

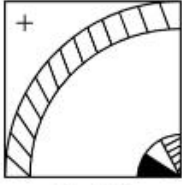
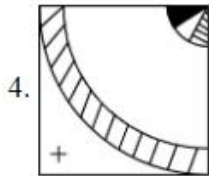
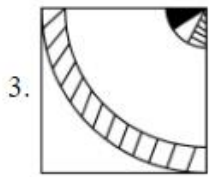
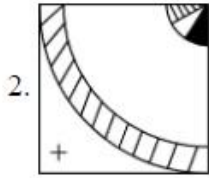
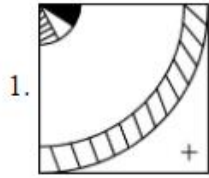


Fig (x)



Options :

686340168865. 1

686340168866. 2

686340168867. 3

686340168868. 4

Question Number : 18 Question Id : 68634042754 Question Type : MCQ Option Shuffling : No Is Question Mandatory : No Calculator : None Response Time : N.A Think Time : N.A Minimum Instruction Time : 0

Correct Marks : 4 Wrong Marks : 1

एक निश्चित कूट तंत्र में, यदि $2 = 5$, $4 = 18$, $6 = 39$, तब $10 = ?$

1. 105

2. 104

3. 89

4. 54

Options :

686340168869. 1
686340168870. 2
686340168871. 3
686340168872. 4

**Question Number : 18 Question Id : 68634042754 Question Type : MCQ Option Shuffling : No Is Question Mandatory :
No Calculator : None Response Time : N.A Think Time : N.A Minimum Instruction Time : 0
Correct Marks : 4 Wrong Marks : 1**

एक निश्चित कूट तंत्र में, यदि $2 = 5$, $4 = 18$, $6 = 39$, तब $10 = ?$

1. 105
2. 104
3. 89
4. 54

Options :

686340168869. 1
686340168870. 2
686340168871. 3
686340168872. 4

**Question Number : 19 Question Id : 68634042755 Question Type : MCQ Option Shuffling : No Is Question Mandatory :
No Calculator : None Response Time : N.A Think Time : N.A Minimum Instruction Time : 0
Correct Marks : 4 Wrong Marks : 1**

दिए गए युग्म की दर्पण प्रतिबिंब का पता लगाइये।

"AN54WMG3"

1. 3DMW42NA
2. 3DMW45NV
3. 3GWM42NV
4. 3DMW42NV

Options :

686340168873. 1
686340168874. 2
686340168875. 3
686340168876. 4

**Question Number : 19 Question Id : 68634042755 Question Type : MCQ Option Shuffling : No Is Question Mandatory :
No Calculator : None Response Time : N.A Think Time : N.A Minimum Instruction Time : 0
Correct Marks : 4 Wrong Marks : 1**

दिए गए युग्म की दर्पण प्रतिबिंब का पता लगाइये।

"AN54WMG3"

1. 3GMW42NA
2. 3GWM42NV
3. 3GWM42NV
4. 3GWM42NA

Options :

686340168873. 1
686340168874. 2
686340168875. 3
686340168876. 4

Question Number : 20 Question Id : 68634042756 Question Type : MCQ Option Shuffling : No Is Question Mandatory : No Calculator : None Response Time : N.A Think Time : N.A Minimum Instruction Time : 0

Correct Marks : 4 Wrong Marks : 1

यदि आपका जन्म 6 नवंबर 1983 को हुआ था जो एक रविवार था, तो 1984 में आपका जन्मदिन सप्ताह के किस दिन पड़ेगा?

1. सोमवार
2. बुधवार
3. मंगलवार
4. शुक्रवार

Options :

686340168877. 1
686340168878. 2
686340168879. 3
686340168880. 4

Question Number : 20 Question Id : 68634042756 Question Type : MCQ Option Shuffling : No Is Question Mandatory : No Calculator : None Response Time : N.A Think Time : N.A Minimum Instruction Time : 0

Correct Marks : 4 Wrong Marks : 1

यदि आपका जन्म 6 नवंबर 1983 को हुआ था जो एक रविवार था, तो 1984 में आपका जन्मदिन सप्ताह के किस दिन पड़ेगा?

1. सोमवार
2. बुधवार
3. मंगलवार
4. शुक्रवार

Options :

686340168877. 1
686340168878. 2
686340168879. 3
686340168880. 4

Question Number : 21 Question Id : 68634042757 Question Type : MCQ Option Shuffling : No Is Question Mandatory : No Calculator : None Response Time : N.A Think Time : N.A Minimum Instruction Time : 0

Correct Marks : 4 Wrong Marks : 1

पृथ्वी के अपने धुरी के परितः परिभ्रमण की अवधि के समान कक्षीय अवधि वाले उपग्रह को _____ कहा जाता है।

1. ध्रुवीय उपग्रह
2. स्थैतिक उपग्रह
3. भू- स्थैतिक उपग्रह
4. इनसेट (INSAT)

Options :

686340168881. 1
686340168882. 2
686340168883. 3
686340168884. 4

Question Number : 21 Question Id : 68634042757 Question Type : MCQ Option Shuffling : No Is Question Mandatory : No Calculator : None Response Time : N.A Think Time : N.A Minimum Instruction Time : 0

Correct Marks : 4 Wrong Marks : 1

पृथ्वी के अपने धुरी के परितः परिभ्रमण की अवधि के समान कक्षीय अवधि वाले उपग्रह को _____ कहा जाता है।

1. ध्रुवीय उपग्रह
2. स्थैतिक उपग्रह
3. भू- स्थैतिक उपग्रह
4. इनसेट (INSAT)

Options :

686340168881. 1
686340168882. 2
686340168883. 3
686340168884. 4

Question Number : 22 Question Id : 68634042758 Question Type : MCQ Option Shuffling : No Is Question Mandatory : No Calculator : None Response Time : N.A Think Time : N.A Minimum Instruction Time : 0 Correct Marks : 4 Wrong Marks : 1

सूची I का सूची II से मिलान कीजिए

LIST I एल्युमीनियम कंपनी		LIST II स्थान	
A.	बाल्को	I.	हीराकुंड
B.	हिंडालको	II.	कोरबा
C.	भारतीय एल्युमीनियम कंपनी	III.	कोरापुट
D.	नाल्को	IV.	रेनुकूट

निम्नलिखित विकल्पों में से सही उत्तर का चयन कीजिए :

1. A-III, B-I, C-IV, D-II
2. A-II, B-IV, C-I, D-III
3. A-III, B-IV, C-I, D-II
4. A-II, B-I, C-IV, D-III

Options :

686340168885. 1
686340168886. 2
686340168887. 3
686340168888. 4

Question Number : 22 Question Id : 68634042758 Question Type : MCQ Option Shuffling : No Is Question Mandatory : No Calculator : None Response Time : N.A Think Time : N.A Minimum Instruction Time : 0 Correct Marks : 4 Wrong Marks : 1

सूची I का सूची II से मिलान कीजिए

LIST I एल्युमीनियम कंपनी		LIST II स्थान	
A.	बाल्को	I.	हीराकुंड
B.	हिंडालको	II.	कोरबा
C.	भारतीय एल्युमीनियम कंपनी	III.	कोरापुट
D.	नाल्को	IV.	रेनुकूट

निम्नलिखित विकल्पों में से सही उत्तर का चयन कीजिए :

1. A-III, B-I, C-IV, D-II
2. A-II, B-IV, C-I, D-III
3. A-III, B-IV, C-I, D-II
4. A-II, B-I, C-IV, D-III

Options :

686340168885. 1
686340168886. 2
686340168887. 3
686340168888. 4

Question Number : 23 Question Id : 68634042759 Question Type : MCQ Option Shuffling : No Is Question Mandatory : No Calculator : None Response Time : N.A Think Time : N.A Minimum Instruction Time : 0

Correct Marks : 4 Wrong Marks : 1

स्पीकर (अध्यक्ष) संसद के एक सदस्य को बोलने से रोकने और अन्य दूसरे सदस्य को बोलने देने के लिए कह सकता है। यह घटना किस रूप में जानी जाती है।

1. शिष्टाचार
2. पक्ष परिवर्तन
3. पूछ-ताछ
4. पटल पर समर्पण

Options :

686340168889. 1
686340168890. 2
686340168891. 3
686340168892. 4

Question Number : 23 Question Id : 68634042759 Question Type : MCQ Option Shuffling : No Is Question Mandatory : No Calculator : None Response Time : N.A Think Time : N.A Minimum Instruction Time : 0

Correct Marks : 4 Wrong Marks : 1

स्पीकर (अध्यक्ष) संसद के एक सदस्य को बोलने से रोकने और अन्य दूसरे सदस्य को बोलने देने के लिए कह सकता है। यह घटना किस रूप में जानी जाती है।

1. शिष्टाचार
2. पक्ष परिवर्तन
3. पूछ-ताछ
4. पटल पर समर्पण

Options :

686340168889. 1
686340168890. 2
686340168891. 3
686340168892. 4

Question Number : 24 Question Id : 68634042760 Question Type : MCQ Option Shuffling : No Is Question Mandatory : No Calculator : None Response Time : N.A Think Time : N.A Minimum Instruction Time : 0 Correct Marks : 4 Wrong Marks : 1

सूची I का सूची II से मिलान कीजिए

सूची I धार्मिक संस्थान		सूची II संस्थापक	
A.	आर्य समाज	I.	गोपाल कृष्ण गोखले
B.	रामकृष्ण मिशन	II.	एन. एम. जोशी
C.	सर्वेंट ऑफ इंडियन सोसाइटी	III.	दयानंद सरस्वती
D.	सोशल सर्विस लीग	IV.	स्वामी विवेकानंद

निम्नलिखित विकल्पों में से सही उत्तर का चयन कीजिए :

1. A-III, B-IV, C-II, D-I
2. A-III, B-IV, C-I, D-II
3. A-IV, B-III, C-I, D-II
4. A-II, B-IV, C-I, D-III

Options :

686340168893. 1
686340168894. 2
686340168895. 3
686340168896. 4

Question Number : 24 Question Id : 68634042760 Question Type : MCQ Option Shuffling : No Is Question Mandatory : No Calculator : None Response Time : N.A Think Time : N.A Minimum Instruction Time : 0 Correct Marks : 4 Wrong Marks : 1

सूची I का सूची II से मिलान कीजिए

सूची I धार्मिक संस्थान		सूची II संस्थापक	
A.	आर्य समाज	I.	गोपाल कृष्ण गोखले
B.	रामकृष्ण मिशन	II.	एन. एम. जोशी
C.	सर्वेंट ऑफ इंडियन सोसाइटी	III.	दयानंद सरस्वती
D.	सोशल सर्विस लीग	IV.	स्वामी विवेकानंद

निम्नलिखित विकल्पों में से सही उत्तर का चयन कीजिए :

1. A-III, B-IV, C-II, D-I
2. A-III, B-IV, C-I, D-II
3. A-IV, B-III, C-I, D-II
4. A-II, B-IV, C-I, D-III

Options :

686340168893. 1
686340168894. 2
686340168895. 3
686340168896. 4

Question Number : 25 Question Id : 68634042761 Question Type : MCQ Option Shuffling : No Is Question Mandatory : No Calculator : None Response Time : N.A Think Time : N.A Minimum Instruction Time : 0 Correct Marks : 4 Wrong Marks : 1

भूकंप तरंग उत्पत्ति का केन्द्र किस रूप में जाना जाता है

1. भूकंप ज़ोन
2. मूल (फोकस)
3. प्रकाशमंडल
4. अधिकेन्द्र

Options :

686340168897. 1
686340168898. 2
686340168899. 3
686340168900. 4

Question Number : 25 Question Id : 68634042761 Question Type : MCQ Option Shuffling : No Is Question Mandatory : No Calculator : None Response Time : N.A Think Time : N.A Minimum Instruction Time : 0 Correct Marks : 4 Wrong Marks : 1

भूकंप तरंग उत्पत्ति का केन्द्र किस रूप में जाना जाता है

1. भूकंप ज़ोन
2. मूल (फोकस)
3. प्रकाशमंडल
4. अधिकेन्द्र

Options :

686340168897. 1
686340168898. 2
686340168899. 3
686340168900. 4

Part B: MPT

Section Id :	686340842
Section Number :	2
Section type :	Online
Mandatory or Optional :	Mandatory
Number of Questions :	75
Number of Questions to be attempted :	75
Section Marks :	300
Enable Mark as Answered Mark for Review and Clear Response :	Yes
Maximum Instruction Time :	0
Sub-Section Number :	1
Sub-Section Id :	6863401402
Question Shuffling Allowed :	Yes
Is Section Default? :	null

Question Number : 26 Question Id : 68634042762 Question Type : MCQ Option Shuffling : No Is Question Mandatory : No Calculator : None Response Time : N.A Think Time : N.A Minimum Instruction Time : 0 Correct Marks : 4 Wrong Marks : 1

As per Maslow's hierarchy of needs, which one out of these would be considered as the highest need (out of the given options)?

1. Security or safety needs
2. Affiliation of acceptance needs
3. Esteem needs
4. Physiological needs

Options :

686340168901. 1
686340168902. 2
686340168903. 3

686340168904. 4

Question Number : 26 Question Id : 68634042762 Question Type : MCQ Option Shuffling : No Is Question Mandatory : No Calculator : None Response Time : N.A Think Time : N.A Minimum Instruction Time : 0 Correct Marks : 4 Wrong Marks : 1

मास्तो की आवश्यकताओं के पदानुक्रम के अनुसार, दिए गए निम्नलिखित विकल्पों में से किसको उच्चतम आवश्यकता समझा जाएगा?

1. सुरक्षा आवश्यकता
2. संबंधन अथवा स्वीकरण आवश्यकता
3. आत्म-सम्मान आवश्यकता
4. शारीरिक आवश्यकता

Options :

- 686340168901. 1
- 686340168902. 2
- 686340168903. 3
- 686340168904. 4

Question Number : 27 Question Id : 68634042763 Question Type : MCQ Option Shuffling : No Is Question Mandatory : No Calculator : None Response Time : N.A Think Time : N.A Minimum Instruction Time : 0 Correct Marks : 4 Wrong Marks : 1

Two or more events are said to be _____ if the occurrence of one implies that the other cannot occur.

1. Equally likely events
2. Mutually exclusive events
3. Collective exhaustive events
4. Complementary Events

Options :

- 686340168905. 1
- 686340168906. 2
- 686340168907. 3
- 686340168908. 4

Question Number : 27 Question Id : 68634042763 Question Type : MCQ Option Shuffling : No Is Question Mandatory : No Calculator : None Response Time : N.A Think Time : N.A Minimum Instruction Time : 0 Correct Marks : 4 Wrong Marks : 1

दो या अधिक घटनाओं को _____ कहा जाता है यदि एक के घटित होने से यह अर्थ निकलता है कि दूसरी घटना घट नहीं सकती है।

1. समप्रायिक घटनाएँ
2. परस्पर व्यावर्तक घटनाएँ
3. सामूहिक समग्र घटनाएँ
4. पूरक घटनाएँ

Options :

686340168905. 1
686340168906. 2
686340168907. 3
686340168908. 4

Question Number : 28 Question Id : 68634042764 Question Type : MCQ Option Shuffling : No Is Question Mandatory : No Calculator : None Response Time : N.A Think Time : N.A Minimum Instruction Time : 0

Correct Marks : 4 Wrong Marks : 1

The skills including self awareness, identifying limitations, preparedness for unexpected findings are a part of:-

1. Metacognition
2. Knowledge
3. Metaknowledge
4. Cognition

Options :

686340168909. 1
686340168910. 2
686340168911. 3
686340168912. 4

Question Number : 28 Question Id : 68634042764 Question Type : MCQ Option Shuffling : No Is Question Mandatory : No Calculator : None Response Time : N.A Think Time : N.A Minimum Instruction Time : 0

Correct Marks : 4 Wrong Marks : 1

स्वबोध, सीमाओं को पहचानना और अप्रत्याशित उपलब्धियों के लिए तैयार रहना जैसे कौशल _____ का अंश हैं।

1. अधिसंज्ञान
2. ज्ञान
3. अधिज्ञान
4. संज्ञान

Options :

- 686340168909. 1
- 686340168910. 2
- 686340168911. 3
- 686340168912. 4

Question Number : 29 Question Id : 68634042765 Question Type : MCQ Option Shuffling : No Is Question Mandatory : No Calculator : None Response Time : N.A Think Time : N.A Minimum Instruction Time : 0 Correct Marks : 4 Wrong Marks : 1

The most common antibody in human serum is:-

1. IgG
2. IgM
3. IgE
4. IgD

Options :

- 686340168913. 1
- 686340168914. 2
- 686340168915. 3
- 686340168916. 4

Question Number : 29 Question Id : 68634042765 Question Type : MCQ Option Shuffling : No Is Question Mandatory : No Calculator : None Response Time : N.A Think Time : N.A Minimum Instruction Time : 0 Correct Marks : 4 Wrong Marks : 1

मानव सीरम में पाई जाने वाली सबसे आम प्रतिरक्षी _____ है।

1. IgG
2. IgM
3. IgE
4. IgD

Options :

- 686340168913. 1

686340168914. 2
686340168915. 3
686340168916. 4

Question Number : 30 Question Id : 68634042766 Question Type : MCQ Option Shuffling : No Is Question Mandatory : No Calculator : None Response Time : N.A Think Time : N.A Minimum Instruction Time : 0
Correct Marks : 4 Wrong Marks : 1

Which of the following is not a feature of benign tumor?

1. Its boundaries are encapsulated or well-circumscribed
2. Its growth rate is very rapid
3. It usually resembles the tissue of origin closely
4. Metastasis is usually absent

Options :

686340168917. 1
686340168918. 2
686340168919. 3
686340168920. 4

Question Number : 30 Question Id : 68634042766 Question Type : MCQ Option Shuffling : No Is Question Mandatory : No Calculator : None Response Time : N.A Think Time : N.A Minimum Instruction Time : 0
Correct Marks : 4 Wrong Marks : 1

निम्न में से कौन-सी सुदम्य अर्बुद की विशेषता नहीं है?

1. इसकी सीमाएँ उचित रूप से परिसीमित होती हैं।
2. इसकी वृद्धि दर अति तीव्र होती है।
3. यह सामान्यतः उद्गम - ऊतक के सदृश होता है।
4. सामान्यतः मेटास्टैसिस नहीं होता है।

Options :

686340168917. 1
686340168918. 2
686340168919. 3
686340168920. 4

Question Number : 31 Question Id : 68634042767 Question Type : MCQ Option Shuffling : No Is Question Mandatory : No Calculator : None Response Time : N.A Think Time : N.A Minimum Instruction Time : 0
Correct Marks : 4 Wrong Marks : 1

When two or more principles conflict with each other and choice of best action is not clear, this is called:-

1. Ethical situation
2. Ethical problem
3. Ethical Dilemma
4. Ethical Query

Options :

686340168921. 1
686340168922. 2
686340168923. 3
686340168924. 4

Question Number : 31 Question Id : 68634042767 Question Type : MCQ Option Shuffling : No Is Question Mandatory : No Calculator : None Response Time : N.A Think Time : N.A Minimum Instruction Time : 0 Correct Marks : 4 Wrong Marks : 1

जब दो या अधिक सिद्धांतों का आपस में विरोध होता है और सर्वोत्तम व्यवहार का चयन स्पष्ट नहीं होता, इसे _____ कहते हैं।

1. नैतिक परिस्थिति
2. नैतिक समस्या
3. नैतिक दुविधा
4. नैतिक प्रश्न

Options :

686340168921. 1
686340168922. 2
686340168923. 3
686340168924. 4

Question Number : 32 Question Id : 68634042768 Question Type : MCQ Option Shuffling : No Is Question Mandatory : No Calculator : None Response Time : N.A Think Time : N.A Minimum Instruction Time : 0 Correct Marks : 4 Wrong Marks : 1

Rhythmical control of the breath in yoga is:-

1. Dharana
2. Pranayama
3. Pratyahara
4. Dhyana

Options :

686340168925. 1
686340168926. 2
686340168927. 3
686340168928. 4

**Question Number : 32 Question Id : 68634042768 Question Type : MCQ Option Shuffling : No Is Question Mandatory :
No Calculator : None Response Time : N.A Think Time : N.A Minimum Instruction Time : 0**

Correct Marks : 4 Wrong Marks : 1

योग में श्वसन का लयात्मक नियंत्रण _____ है।

1. धारणा
2. प्राणायाम
3. प्रत्याहार
4. ध्यान

Options :

686340168925. 1
686340168926. 2
686340168927. 3
686340168928. 4

**Question Number : 33 Question Id : 68634042769 Question Type : MCQ Option Shuffling : No Is Question Mandatory :
No Calculator : None Response Time : N.A Think Time : N.A Minimum Instruction Time : 0**

Correct Marks : 4 Wrong Marks : 1

The goal of _____ is to compensate for absent or impaired abilities and enable occupational performance of differently abled person.

1. Advanced Technology
2. Artificial Intelligence
3. Information Technology
4. Assistive Technology

Options :

686340168929. 1
686340168930. 2
686340168931. 3
686340168932. 4

**Question Number : 33 Question Id : 68634042769 Question Type : MCQ Option Shuffling : No Is Question Mandatory :
No Calculator : None Response Time : N.A Think Time : N.A Minimum Instruction Time : 0**

Correct Marks : 4 Wrong Marks : 1

_____ का उद्देश्य यह है कि वह अनुपस्थित या विकृत क्षमताओं की क्षतिपूर्ति करे और दिव्यांगजनों को व्यावसायिक निष्पादन के लिए योग्य बनाए।

1. अग्रवर्ती प्रौद्योगिकी
2. कृत्रिम बुद्धिमत्ता
3. सूचना प्रौद्योगिकी
4. सहायिकी प्रौद्योगिकी

Options :

686340168929. 1
686340168930. 2
686340168931. 3
686340168932. 4

Question Number : 34 Question Id : 68634042770 Question Type : MCQ Option Shuffling : No Is Question Mandatory : No Calculator : None Response Time : N.A Think Time : N.A Minimum Instruction Time : 0

Correct Marks : 4 Wrong Marks : 1

A personality characteristic that is characterized by high levels of worry, anxiety and depressed mood:-

1. Psychoticism
2. Addictive personality
3. Sadism
4. Neuroticism

Options :

686340168933. 1
686340168934. 2
686340168935. 3
686340168936. 4

Question Number : 34 Question Id : 68634042770 Question Type : MCQ Option Shuffling : No Is Question Mandatory : No Calculator : None Response Time : N.A Think Time : N.A Minimum Instruction Time : 0

Correct Marks : 4 Wrong Marks : 1

_____ ऐसा व्यक्तित्व विकार है जिसकी विशेषता फिक्र, दुश्चिंता और अवसादी मनोदशा के उच्च स्तर हैं।

1. मनस्तापिता
2. व्यसनकारी व्यक्तित्व
3. परपीड़न रति
4. तंत्रिकातापिता

Options :

686340168933. 1
686340168934. 2
686340168935. 3
686340168936. 4

**Question Number : 35 Question Id : 68634042771 Question Type : MCQ Option Shuffling : No Is Question Mandatory :
No Calculator : None Response Time : N.A Think Time : N.A Minimum Instruction Time : 0
Correct Marks : 4 Wrong Marks : 1**

_____ deals with the biological and therapeutic effect of the drugs including the mechanism of drug action.

1. Pharmacokinetics
2. Pharmacodynamics
3. Pharmacogenetics
4. Toxicology

Options :

686340168937. 1
686340168938. 2
686340168939. 3
686340168940. 4

**Question Number : 35 Question Id : 68634042771 Question Type : MCQ Option Shuffling : No Is Question Mandatory :
No Calculator : None Response Time : N.A Think Time : N.A Minimum Instruction Time : 0
Correct Marks : 4 Wrong Marks : 1**

_____ में औषधि के जैविक और चिकित्सकीय प्रभावों के साथ उसकी क्रियाविधि भी सम्मिलित है।

1. फार्माकोकाइनेटिक्स
2. फार्माकोडायनेमिक्स
3. भेषजानुवंशिकी
4. आविषविज्ञान

Options :

686340168937. 1
686340168938. 2
686340168939. 3
686340168940. 4

**Question Number : 36 Question Id : 68634042772 Question Type : MCQ Option Shuffling : No Is Question Mandatory :
No Calculator : None Response Time : N.A Think Time : N.A Minimum Instruction Time : 0
Correct Marks : 4 Wrong Marks : 1**

The citric acid cycle degrades the _____ substrate to carbon dioxide and hydrogen atoms.

1. Glucose
2. Citrate
3. Succinate
4. Acetyl - COA

Options :

686340168941. 1
686340168942. 2
686340168943. 3
686340168944. 4

Question Number : 36 Question Id : 68634042772 Question Type : MCQ Option Shuffling : No Is Question Mandatory : No Calculator : None Response Time : N.A Think Time : N.A Minimum Instruction Time : 0 Correct Marks : 4 Wrong Marks : 1

सिट्रिक अम्ल साइकिल _____ कार्यद्रव को कार्बन डाईऑक्साइड और हाईड्रोजन परमाणुओं में अवक्रमित करती है।

1. ग्लूकोज
2. सिट्रेट
3. सक्सिनेट
4. एसिटिल - CoA

Options :

686340168941. 1
686340168942. 2
686340168943. 3
686340168944. 4

Question Number : 37 Question Id : 68634042773 Question Type : MCQ Option Shuffling : No Is Question Mandatory : No Calculator : None Response Time : N.A Think Time : N.A Minimum Instruction Time : 0 Correct Marks : 4 Wrong Marks : 1

In Global context, absolute poverty is often measured as

1. Per capita income equivalent to less than one international dollar a day
2. Per capita income equivalent to less than one unit of money in the same country a day
3. Per capita income equivalent to less than one unit of money a day of the low income country
4. Per capita income equivalent to less than one unit of money a day of the high income country

Options :

686340168945. 1

686340168946. 2

686340168947. 3

686340168948. 4

Question Number : 37 Question Id : 68634042773 Question Type : MCQ Option Shuffling : No Is Question Mandatory : No Calculator : None Response Time : N.A Think Time : N.A Minimum Instruction Time : 0

Correct Marks : 4 Wrong Marks : 1

वैश्विक संदर्भ में, निरपेक्ष गरीबी को प्रायः ऐसे मापा जाता है :

1. प्रति व्यक्ति आय एक दिन में एक अंतर्राष्ट्रीय डॉलर से कम के बराबर होना
2. प्रति व्यक्ति आय एक दिन में उसी देश की मुद्रा की एक इकाई से कम के बराबर होना
3. प्रति व्यक्ति आय एक दिन में निम्न आय देश की मुद्रा की एक इकाई से कम के बराबर होना
4. प्रति व्यक्ति आय एक दिन में उच्च आय देश की मुद्रा की एक इकाई से कम के बराबर होना

Options :

686340168945. 1

686340168946. 2

686340168947. 3

686340168948. 4

Question Number : 38 Question Id : 68634042774 Question Type : MCQ Option Shuffling : No Is Question Mandatory : No Calculator : None Response Time : N.A Think Time : N.A Minimum Instruction Time : 0

Correct Marks : 4 Wrong Marks : 1

Which structure is an important regulator of Homeostasis?

1. Thalamus
2. Epithalamus
3. Cerebrum
4. Hypothalamus

Options :

686340168949. 1

686340168950. 2

686340168951. 3

686340168952. 4

Question Number : 38 Question Id : 68634042774 Question Type : MCQ Option Shuffling : No Is Question Mandatory : No Calculator : None Response Time : N.A Think Time : N.A Minimum Instruction Time : 0

Correct Marks : 4 Wrong Marks : 1

कौन-सी संरचना समस्थापन की एक महत्वपूर्ण विनियंत्रक है?

1. चेतक
2. अधिचेतक
3. प्रमस्तिष्क
4. अधश्चेतक

Options :

686340168949. 1
686340168950. 2
686340168951. 3
686340168952. 4

Question Number : 39 Question Id : 68634042775 Question Type : MCQ Option Shuffling : No Is Question Mandatory : No Calculator : None Response Time : N.A Think Time : N.A Minimum Instruction Time : 0

Correct Marks : 4 Wrong Marks : 1

Which structure releases Calcium (Ca^{2+}) ions to trigger muscle contraction?

1. Transverse tubule
2. Nucleus
3. Sarcoplasmic reticulum
4. Sarcolemma

Options :

686340168953. 1
686340168954. 2
686340168955. 3
686340168956. 4

Question Number : 39 Question Id : 68634042775 Question Type : MCQ Option Shuffling : No Is Question Mandatory : No Calculator : None Response Time : N.A Think Time : N.A Minimum Instruction Time : 0

Correct Marks : 4 Wrong Marks : 1

कौन सी संरचना पेशी संकुचन के विमोचन के लिए कैल्सियम (Ca^{2+}) आयनों का मोचन करती है?

1. ट्रांसवर्स टुब्यूल
2. केन्द्रक
3. पेशीद्रव्य रेटीकुलम
4. सार्कोलेमा

Options :

686340168953. 1

686340168954. 2

686340168955. 3

686340168956. 4

Question Number : 40 Question Id : 68634042776 Question Type : MCQ Option Shuffling : No Is Question Mandatory : No Calculator : None Response Time : N.A Think Time : N.A Minimum Instruction Time : 0

Correct Marks : 4 Wrong Marks : 1

The tibial part of Sciatic Nerve is formed by the ventral divisions of the anterior primary rami of

1. L₃,L₄,L₅,S₁,S₂

2. L₄,L₅,S₁,S₂,S₃

3. L₂,L₃,L₄,L₅,S₁

4. L₅,S₁,S₂,S₃,S₄

Options :

686340168957. 1

686340168958. 2

686340168959. 3

686340168960. 4

Question Number : 40 Question Id : 68634042776 Question Type : MCQ Option Shuffling : No Is Question Mandatory : No Calculator : None Response Time : N.A Think Time : N.A Minimum Instruction Time : 0

Correct Marks : 4 Wrong Marks : 1

नितंब तंत्रिका का टिबियल भाग _____ के एंटीरियर प्राइमरी रेमस के वेंट्रल डिविजन से बनता है।

1. L₃,L₄,L₅,S₁,S₂

2. L₄,L₅,S₁,S₂,S₃

3. L₂,L₃,L₄,L₅,S₁

4. L₅,S₁,S₂,S₃,S₄

Options :

686340168957. 1

686340168958. 2

686340168959. 3

686340168960. 4

Question Number : 41 Question Id : 68634042777 Question Type : MCQ Option Shuffling : No Is Question Mandatory : No Calculator : None Response Time : N.A Think Time : N.A Minimum Instruction Time : 0

Correct Marks : 4 Wrong Marks : 1

In talipes equino varus (or club foot) deformity, the foot is

1. Everted, Adducted and Plantarflexed
2. Inverted, Adducted and Plantarflexed
3. Everted, Abducted and Dorsiflexed
4. Inverted, Abducted and Dorsiflexed

Options :

- 686340168961. 1
- 686340168962. 2
- 686340168963. 3
- 686340168964. 4

Question Number : 41 Question Id : 68634042777 Question Type : MCQ Option Shuffling : No Is Question Mandatory : No Calculator : None Response Time : N.A Think Time : N.A Minimum Instruction Time : 0

Correct Marks : 4 Wrong Marks : 1

टेलिपस इक्वाइनो वेरस (या क्लबफुट) विकृति में फुट की स्थिति _____ होती है।

1. इवर्टिड, अडकटिड और प्लांटरफ्लैक्सड
2. इंवर्टिड, अडकटिड और प्लांटरफ्लैक्सड
3. इवर्टिड, अब्डकटिड और डार्सिफ्लैक्सड
4. इंवर्टिड, अब्डकटिड और डार्सिफ्लैक्सड

Options :

- 686340168961. 1
- 686340168962. 2
- 686340168963. 3
- 686340168964. 4

Question Number : 42 Question Id : 68634042778 Question Type : MCQ Option Shuffling : No Is Question Mandatory : No Calculator : None Response Time : N.A Think Time : N.A Minimum Instruction Time : 0

Correct Marks : 4 Wrong Marks : 1

A specific test used for the diagnosis of Tennis Elbow is:

1. Cozen's test
2. Finkelstein's test
3. Tinel test
4. Froment sign

Options :

- 686340168965. 1

686340168966. 2
686340168967. 3
686340168968. 4

**Question Number : 42 Question Id : 68634042778 Question Type : MCQ Option Shuffling : No Is Question Mandatory :
No Calculator : None Response Time : N.A Think Time : N.A Minimum Instruction Time : 0
Correct Marks : 4 Wrong Marks : 1**

टेनिस एलबो के निदान में प्रयुक्त एक विशिष्ट परीक्षण है :

1. कोजेन टेस्ट
2. फिंकलस्टीन टेस्ट
3. टिनल टेस्ट
4. फ्रॉमेंट साइन

Options :

686340168965. 1
686340168966. 2
686340168967. 3
686340168968. 4

**Question Number : 43 Question Id : 68634042779 Question Type : MCQ Option Shuffling : No Is Question Mandatory :
No Calculator : None Response Time : N.A Think Time : N.A Minimum Instruction Time : 0
Correct Marks : 4 Wrong Marks : 1**

Tearing of Ulnar collateral ligament of the thumb metacarpophalangeal joint is known as:

1. Footballer's thumb
2. Jumper's thumb
3. Gamekeeper's thumb
4. Housemaid's thumb

Options :

686340168969. 1
686340168970. 2
686340168971. 3
686340168972. 4

**Question Number : 43 Question Id : 68634042779 Question Type : MCQ Option Shuffling : No Is Question Mandatory :
No Calculator : None Response Time : N.A Think Time : N.A Minimum Instruction Time : 0
Correct Marks : 4 Wrong Marks : 1**

अंगूठे के मेटाकार्पोफैलिंजियल जोड़ के अल्नर कोलेटरल लिगामन्ट के फटन को _____ कहते हैं।

1. फुटबॉलर्स थंब
2. जंपर्स थंब
3. गेमकीपर्स थंब
4. हाऊसमेड थंब

Options :

686340168969. 1
686340168970. 2
686340168971. 3
686340168972. 4

Question Number : 44 Question Id : 68634042780 Question Type : MCQ Option Shuffling : No Is Question Mandatory : No Calculator : None Response Time : N.A Think Time : N.A Minimum Instruction Time : 0

Correct Marks : 4 Wrong Marks : 1

Based on the mechanism of head injury, brain injury sustained on opposite side of impact is called

1. Open Head Injury
2. Closed Head Injury
3. Blast Injury
4. Contre-coup injury

Options :

686340168973. 1
686340168974. 2
686340168975. 3
686340168976. 4

Question Number : 44 Question Id : 68634042780 Question Type : MCQ Option Shuffling : No Is Question Mandatory : No Calculator : None Response Time : N.A Think Time : N.A Minimum Instruction Time : 0

Correct Marks : 4 Wrong Marks : 1

मस्तिष्क की क्षति की क्रियाविधि के आधार पर संघात के विपरीत दिशा में होने वाली मस्तिष्क की क्षति को _____ कहते हैं।

1. ओपन हेड क्षति
2. क्लोज्ड हेड क्षति
3. ब्लास्ट क्षति
4. कांट्रेकूप क्षति

Options :

- 686340168973. 1
- 686340168974. 2
- 686340168975. 3
- 686340168976. 4

Question Number : 45 Question Id : 68634042781 Question Type : MCQ Option Shuffling : No Is Question Mandatory : No Calculator : None Response Time : N.A Think Time : N.A Minimum Instruction Time : 0 Correct Marks : 4 Wrong Marks : 1

Dix Hallpike is a gold standard for diagnosis of which of the following?

- 1. Nystagmus
- 2. Vestibular Neuritis
- 3. Benign Paroxysmal Positional Vertigo
- 4. Endolymphatic Hydrops

Options :

- 686340168977. 1
- 686340168978. 2
- 686340168979. 3
- 686340168980. 4

Question Number : 45 Question Id : 68634042781 Question Type : MCQ Option Shuffling : No Is Question Mandatory : No Calculator : None Response Time : N.A Think Time : N.A Minimum Instruction Time : 0 Correct Marks : 4 Wrong Marks : 1

निम्न में से किस के निदान के लिए 'डिक्स-हालपाइक' एक स्वर्णमान परीक्षण है?

- 1. अक्षिदोलन
- 2. प्रघाण तंत्रिकाशोथ
- 3. सुदम्य पैरोक्सिज्मल पोजिशनल वर्टिगो
- 4. एण्डोलिम्फेटिक हाइड्रोप्स

Options :

- 686340168977. 1
- 686340168978. 2
- 686340168979. 3
- 686340168980. 4

Question Number : 46 Question Id : 68634042782 Question Type : MCQ Option Shuffling : No Is Question Mandatory : No Calculator : None Response Time : N.A Think Time : N.A Minimum Instruction Time : 0 Correct Marks : 4 Wrong Marks : 1

Normal range of cardiac output

1. 3 to 4 litres/min
2. 4 to 6 litres/min
3. 2 to 3 litres/min
4. 6 to 8 litres/min

Options :

- 686340168981. 1
- 686340168982. 2
- 686340168983. 3
- 686340168984. 4

Question Number : 46 Question Id : 68634042782 Question Type : MCQ Option Shuffling : No Is Question Mandatory : No Calculator : None Response Time : N.A Think Time : N.A Minimum Instruction Time : 0

Correct Marks : 4 Wrong Marks : 1

कार्डियक आउटपुट की सामान्य रेंज _____ है।

1. 3 से 4 लीटर / मिनट
2. 4 से 6 लीटर / मिनट
3. 2 से 3 लीटर / मिनट
4. 6 से 8 लीटर / मिनट

Options :

- 686340168981. 1
- 686340168982. 2
- 686340168983. 3
- 686340168984. 4

Question Number : 47 Question Id : 68634042783 Question Type : MCQ Option Shuffling : No Is Question Mandatory : No Calculator : None Response Time : N.A Think Time : N.A Minimum Instruction Time : 0

Correct Marks : 4 Wrong Marks : 1

Based on the percentage of maximal oxygen consumption ($\text{Vo}_2 \text{ Max}$), moderate exercise intensity is best defined at

1. 40-60% $\text{Vo}_2 \text{ max}$
2. < 40% $\text{Vo}_2 \text{ max}$
3. > 60% $\text{Vo}_2 \text{ max}$
4. > 75% $\text{Vo}_2 \text{ max}$

Options :

686340168985. 1
686340168986. 2
686340168987. 3
686340168988. 4

**Question Number : 47 Question Id : 68634042783 Question Type : MCQ Option Shuffling : No Is Question Mandatory :
No Calculator : None Response Time : N.A Think Time : N.A Minimum Instruction Time : 0
Correct Marks : 4 Wrong Marks : 1**

अधिकतम ऑक्सीजन उपभोग ($VO_2 \text{ max}$) के प्रतिशत के आधार पर, व्यायाम की 'मध्यम तीव्रता' को _____ से परिभाषित किया गया है।

1. 40-60% $VO_2 \text{ max}$
2. < 40% $VO_2 \text{ max}$
3. > 60% $VO_2 \text{ max}$
4. > 75% $VO_2 \text{ max}$

Options :

686340168985. 1
686340168986. 2
686340168987. 3
686340168988. 4

**Question Number : 48 Question Id : 68634042784 Question Type : MCQ Option Shuffling : No Is Question Mandatory :
No Calculator : None Response Time : N.A Think Time : N.A Minimum Instruction Time : 0
Correct Marks : 4 Wrong Marks : 1**

Which of the following is the most appropriate dose for treating Acne with ultra-violet radiation?

1. E_1 dose
2. Half of E_1 dose
3. E_2 dose
4. E_3 dose

Options :

686340168989. 1
686340168990. 2
686340168991. 3
686340168992. 4

**Question Number : 48 Question Id : 68634042784 Question Type : MCQ Option Shuffling : No Is Question Mandatory :
No Calculator : None Response Time : N.A Think Time : N.A Minimum Instruction Time : 0
Correct Marks : 4 Wrong Marks : 1**

पराबैंगनी विकिरण द्वारा एक्वि के उपचार के लिए निम्न में से क्या सबसे उपयुक्त खुराक है?

1. E₁ खुराक
2. E₁ खुराक का आधा
3. E₂ खुराक
4. E₃ खुराक

Options :

- 686340168989. 1
- 686340168990. 2
- 686340168991. 3
- 686340168992. 4

Question Number : 49 Question Id : 68634042785 Question Type : MCQ Option Shuffling : No Is Question Mandatory : No Calculator : None Response Time : N.A Think Time : N.A Minimum Instruction Time : 0

Correct Marks : 4 Wrong Marks : 1

Vibration and shaking to chest are used in conjunction with postural drainage to clear airway secretions. They are typically performed only during

1. Inspiration
2. Expiration
3. Inspiration and Expiration
4. Peak inspiration

Options :

- 686340168993. 1
- 686340168994. 2
- 686340168995. 3
- 686340168996. 4

Question Number : 49 Question Id : 68634042785 Question Type : MCQ Option Shuffling : No Is Question Mandatory : No Calculator : None Response Time : N.A Think Time : N.A Minimum Instruction Time : 0

Correct Marks : 4 Wrong Marks : 1

वक्षःस्थल पर वाइब्रेशन और शेकिंग का प्रयोग पॉश्चुरल ड्रेनेज के साथ श्वासनलियों से स्रावों के निकास के लिए किया जाता है। ये विशेषतः केवल _____ के दौरान दी जाती है।

1. अन्तःश्वसन
2. उच्छ्वसन
3. अन्तःश्वसन और उच्छ्वसन
4. अन्तःश्वसन की चरमसीमा

Options :

686340168993. 1
686340168994. 2
686340168995. 3
686340168996. 4

Question Number : 50 Question Id : 68634042786 Question Type : MCQ Option Shuffling : No Is Question Mandatory : No Calculator : None Response Time : N.A Think Time : N.A Minimum Instruction Time : 0

Correct Marks : 4 Wrong Marks : 1

It is the reference point of an immersed object on which vertical forces of fluid predictably act:

1. Centre of gravity
2. Centre of viscosity
3. Centre of propulsion
4. Centre of buoyancy

Options :

686340168997. 1
686340168998. 2
686340168999. 3
686340169000. 4

Question Number : 50 Question Id : 68634042786 Question Type : MCQ Option Shuffling : No Is Question Mandatory : No Calculator : None Response Time : N.A Think Time : N.A Minimum Instruction Time : 0

Correct Marks : 4 Wrong Marks : 1

_____ वह संदर्भ बिन्दु है जिस पर एक डूबी हुई वस्तु पर लगने वाले तरल के लंबवत् बल संभावित रूप से कार्य करते हैं।

1. गुरुत्वाकर्षण का केन्द्र
2. श्यानता का केन्द्र
3. नोदन का केन्द्र
4. उत्प्लावन का केन्द्र

Options :

686340168997. 1
686340168998. 2
686340168999. 3
686340169000. 4

Question Number : 51 Question Id : 68634042787 Question Type : MCQ Option Shuffling : No Is Question Mandatory : No Calculator : None Response Time : N.A Think Time : N.A Minimum Instruction Time : 0 Correct Marks : 4 Wrong Marks : 1

Frontal plane pelvic motion in which pelvis elevates (hip hiking) and lowers (pelvic drop) and this motion is observed by looking at movement of iliac crest opposite to weight bearing extremity, is known as

1. Pelvic Rotation
2. Lateral Pelvic Tilt
3. Lumbopelvic Rhythm
4. Posterior Pelvic Tilt

Options :

686340169001. 1
686340169002. 2
686340169003. 3
686340169004. 4

Question Number : 51 Question Id : 68634042787 Question Type : MCQ Option Shuffling : No Is Question Mandatory : No Calculator : None Response Time : N.A Think Time : N.A Minimum Instruction Time : 0 Correct Marks : 4 Wrong Marks : 1

फ्रंटल प्लेन में होने वाला वह पेल्विक मोशन जिसमें पेल्विस ऊपर उठती (हिप-हाइकिंग) एवं नीचे गिरती (पेल्विक ड्रॉप) है और जिसे भार सहने वाले अग्रगं से विपरीत श्रोणि-शिखर की स्थिति को देखकर निरीक्षित किया जाता है, _____ कहलाता है।

1. पेल्विक रोटेशन
2. लेटरल पेल्विक टिल्ट
3. लम्बोपेल्विक ताल
4. पोस्टीरियर पेल्विक टिल्ट

Options :

686340169001. 1
686340169002. 2
686340169003. 3
686340169004. 4

Question Number : 52 Question Id : 68634042788 Question Type : MCQ Option Shuffling : No Is Question Mandatory : No Calculator : None Response Time : N.A Think Time : N.A Minimum Instruction Time : 0 Correct Marks : 4 Wrong Marks : 1

Which of the following is a contraindication to joint mobilization?

1. Hypermobility
2. Reversible joint hypomobility
3. Pain, muscle guarding and spasm
4. Progressive limitation

Options :

686340169005. 1
686340169006. 2
686340169007. 3
686340169008. 4

Question Number : 52 Question Id : 68634042788 Question Type : MCQ Option Shuffling : No Is Question Mandatory : No Calculator : None Response Time : N.A Think Time : N.A Minimum Instruction Time : 0 Correct Marks : 4 Wrong Marks : 1

जोड़ के मोबिलाइजेशन के लिए निम्न में से क्या एक अपथ्य-निर्देश है ?

1. अतिगतिशीलता
2. जोड़ की उत्क्रमणीय अधोगतिशीलता
3. दर्द, पेशीय गार्डिंग और ऐंठन
4. प्रगामी परिसीमन

Options :

686340169005. 1
686340169006. 2
686340169007. 3
686340169008. 4

Question Number : 53 Question Id : 68634042789 Question Type : MCQ Option Shuffling : No Is Question Mandatory : No Calculator : None Response Time : N.A Think Time : N.A Minimum Instruction Time : 0

Correct Marks : 4 Wrong Marks : 1

Which of the following does not indicate progression during a closed chain exercise?

1. From exercising on stable surface to exercising on a moving surface
2. From Exercising on a rigid surface to exercising on a soft surface
3. From exercising on a narrow base of support to exercising on a wide base of support
4. From exercising with eyes open to exercising with eyes closed

Options :

686340169009. 1
686340169010. 2
686340169011. 3
686340169012. 4

Question Number : 53 Question Id : 68634042789 Question Type : MCQ Option Shuffling : No Is Question Mandatory : No Calculator : None Response Time : N.A Think Time : N.A Minimum Instruction Time : 0

Correct Marks : 4 Wrong Marks : 1

निम्न में से क्या संवृत-चैन व्यायाम में प्रगमन को नहीं दर्शाता है?

1. एक स्थिर सतह पर व्यायाम करने से एक चलायमान सतह पर व्यायाम करना।
2. एक ठोस सतह पर व्यायाम करने से एक कोमल सतह पर व्यायाम करना।
3. एक संकीर्ण बेस ऑफ सपोर्ट पर व्यायाम करने से एक विस्तृत बेस ऑफ सपोर्ट पर व्यायाम करना।
4. आँखें खोलकर व्यायाम करने से आँखें बंद कर के व्यायाम करना।

Options :

686340169009. 1

686340169010. 2
686340169011. 3
686340169012. 4

**Question Number : 54 Question Id : 68634042790 Question Type : MCQ Option Shuffling : No Is Question Mandatory :
No Calculator : None Response Time : N.A Think Time : N.A Minimum Instruction Time : 0
Correct Marks : 4 Wrong Marks : 1**

The end feel for elbow extension in a normal individual is _____

1. Soft
2. Firm
3. Empty
4. Hard

Options :

686340169013. 1
686340169014. 2
686340169015. 3
686340169016. 4

**Question Number : 54 Question Id : 68634042790 Question Type : MCQ Option Shuffling : No Is Question Mandatory :
No Calculator : None Response Time : N.A Think Time : N.A Minimum Instruction Time : 0
Correct Marks : 4 Wrong Marks : 1**

एक सामान्य व्यक्ति में कोहनी के एक्सटेंशन की एण्ड-फील _____ होती है।

1. सॉफ्ट
2. फर्म
3. एम्प्टी
4. हार्ड

Options :

686340169013. 1
686340169014. 2
686340169015. 3
686340169016. 4

**Question Number : 55 Question Id : 68634042791 Question Type : MCQ Option Shuffling : No Is Question Mandatory :
No Calculator : None Response Time : N.A Think Time : N.A Minimum Instruction Time : 0
Correct Marks : 4 Wrong Marks : 1**

Which of the following would offer maximum resistance?

1. A 2-foot red elastic band stretched to 3 feet
2. A 3-foot red elastic band stretched to 6 feet
3. A 2-foot red elastic band stretched to 6 feet
4. A 4-foot red elastic band stretched to 6 feet

Options :

- 686340169017. 1
- 686340169018. 2
- 686340169019. 3
- 686340169020. 4

Question Number : 55 Question Id : 68634042791 Question Type : MCQ Option Shuffling : No Is Question Mandatory : No Calculator : None Response Time : N.A Think Time : N.A Minimum Instruction Time : 0

Correct Marks : 4 Wrong Marks : 1

निम्न में से कौन अधिकतम विरोध प्रदान करेगा?

1. एक 2-फुट का लाल इलास्टिक बैंड जिसे 3 फीट तक खींचा गया हो।
2. एक 3 फुट का लाल इलास्टिक बैंड जिसे 6 फीट तक खींचा गया हो।
3. एक 2-फुट का लाल इलास्टिक बैंड जिसे 6 फीट तक खींचा गया हो।
4. एक 4-फुट का लाल इलास्टिक बैंड जिसे 6 फीट तक खींचा गया हो।

Options :

- 686340169017. 1
- 686340169018. 2
- 686340169019. 3
- 686340169020. 4

Question Number : 56 Question Id : 68634042792 Question Type : MCQ Option Shuffling : No Is Question Mandatory : No Calculator : None Response Time : N.A Think Time : N.A Minimum Instruction Time : 0

Correct Marks : 4 Wrong Marks : 1

Capsular pattern of Glenohumeral joint is

1. Medial Rotation, Adduction, Lateral Rotation
2. Adduction, Medial Rotation, Lateral Rotation
3. Medial Rotation, Lateral Rotation, Abduction
4. Lateral Rotation, Abduction, Medial Rotation

Options :

- 686340169021. 1

686340169022. 2
686340169023. 3
686340169024. 4

**Question Number : 56 Question Id : 68634042792 Question Type : MCQ Option Shuffling : No Is Question Mandatory :
No Calculator : None Response Time : N.A Think Time : N.A Minimum Instruction Time : 0
Correct Marks : 4 Wrong Marks : 1**

ग्लिनोहयूमरल जोड़ का कैप्सूलर पैटर्न है:

1. मीडियल रोटेशन, अडक्शन, लेटरल रोटेशन
2. अडक्शन, मीडियल रोटेशन, लेटरल रोटेशन
3. मीडियल रोटेशन, लेटरल रोटेशन, अब्डक्शन
4. लेटरल रोटेशन, अब्डक्शन, मीडियल रोटेशन

Options :

686340169021. 1
686340169022. 2
686340169023. 3
686340169024. 4

**Question Number : 57 Question Id : 68634042793 Question Type : MCQ Option Shuffling : No Is Question Mandatory :
No Calculator : None Response Time : N.A Think Time : N.A Minimum Instruction Time : 0
Correct Marks : 4 Wrong Marks : 1**

In Colles' fracture, dinner fork deformity of the wrist and hand is caused due to _____.

1. volar displacement of the lower fragment
2. dorsal displacement of the lower fragment
3. medial displacement of the lower fragment
4. lateral displacement of the lower fragment

Options :

686340169025. 1
686340169026. 2
686340169027. 3
686340169028. 4

**Question Number : 57 Question Id : 68634042793 Question Type : MCQ Option Shuffling : No Is Question Mandatory :
No Calculator : None Response Time : N.A Think Time : N.A Minimum Instruction Time : 0
Correct Marks : 4 Wrong Marks : 1**

कोलीज़ फ्रैक्चर में कलाई और हाथ की डिनर-फॉर्क विरुपता _____ के फलस्वरूप होती है।

1. निम्न टुकड़े के वोल्नर विस्थापन
2. निम्न टुकड़े के डॉर्सल विस्थापन
3. निम्न टुकड़े के मीडियल विस्थापन
4. निम्न टुकड़े के लेटरल विस्थापन

Options :

- 686340169025. 1
- 686340169026. 2
- 686340169027. 3
- 686340169028. 4

Question Number : 58 Question Id : 68634042794 Question Type : MCQ Option Shuffling : No Is Question Mandatory : No Calculator : None Response Time : N.A Think Time : N.A Minimum Instruction Time : 0 Correct Marks : 4 Wrong Marks : 1

Most likely structure that is to be injured on forceful abduction and external rotation of the tibia on a semi-flexed weight bearing knee

1. Lateral Meniscus
2. Medial Meniscus
3. Anterior Cruciate ligament
4. Posterior cruciate ligament

Options :

- 686340169029. 1
- 686340169030. 2
- 686340169031. 3
- 686340169032. 4

Question Number : 58 Question Id : 68634042794 Question Type : MCQ Option Shuffling : No Is Question Mandatory : No Calculator : None Response Time : N.A Think Time : N.A Minimum Instruction Time : 0 Correct Marks : 4 Wrong Marks : 1

भार सहने वाले सेमीफ्लैक्सड घुटने पर टिबिया के बलपूर्वक अब्डक्शन और एक्सटर्नल रोटेशन के दौरान इस संरचना के क्षतिग्रस्त होने की संभावना सबसे अधिक होती है:

1. लेटरल मेनिस्कस
2. मीडियल मेनिस्कस
3. एंटीरियर क्रूशिएट लिगामेन्ट
4. पोस्टीरियर क्रूशिएट लिगामेन्ट

Options :

686340169029. 1
686340169030. 2
686340169031. 3
686340169032. 4

Question Number : 59 Question Id : 68634042795 Question Type : MCQ Option Shuffling : No Is Question Mandatory : No Calculator : None Response Time : N.A Think Time : N.A Minimum Instruction Time : 0 Correct Marks : 4 Wrong Marks : 1

Mechanism by which the nerve adapts itself for a constant flow of current

1. Accommodation
2. Attenuation
3. Potential Difference
4. Impedance

Options :

686340169033. 1
686340169034. 2
686340169035. 3
686340169036. 4

Question Number : 59 Question Id : 68634042795 Question Type : MCQ Option Shuffling : No Is Question Mandatory : No Calculator : None Response Time : N.A Think Time : N.A Minimum Instruction Time : 0 Correct Marks : 4 Wrong Marks : 1

वह क्रियाविधि जिससे एक तंत्रिका करंट के सतत प्रवाह से स्वयं को अनुकूलित कर लेती है:

1. समंजन
2. क्षीणन
3. विभांतर
4. प्रतिबाधा

Options :

- 686340169033. 1
- 686340169034. 2
- 686340169035. 3
- 686340169036. 4

Question Number : 60 Question Id : 68634042796 Question Type : MCQ Option Shuffling : No Is Question Mandatory : No Calculator : None Response Time : N.A Think Time : N.A Minimum Instruction Time : 0 Correct Marks : 4 Wrong Marks : 1

Paraffin wax bath treatment cannot be used in _____

- 1. joint stiffness and adhesions
- 2. muscle spasm and pain
- 3. post immobilisation stiffness
- 4. fungal infections of skin

Options :

- 686340169037. 1
- 686340169038. 2
- 686340169039. 3
- 686340169040. 4

Question Number : 60 Question Id : 68634042796 Question Type : MCQ Option Shuffling : No Is Question Mandatory : No Calculator : None Response Time : N.A Think Time : N.A Minimum Instruction Time : 0 Correct Marks : 4 Wrong Marks : 1

पैराफिन मोम अवगाह _____ के उपचार में प्रयोग नहीं किया जा सकता।

- 1. जोड़ की दुर्नम्यता एवं आसंजन
- 2. पेशीय स्पाज्म एवं दर्द
- 3. निश्चलीभवन के बाद होने वाली दुर्नम्यता
- 4. त्वचा के फंगल संक्रमण

Options :

- 686340169037. 1
- 686340169038. 2
- 686340169039. 3
- 686340169040. 4

Question Number : 61 Question Id : 68634042797 Question Type : MCQ Option Shuffling : No Is Question Mandatory : No Calculator : None Response Time : N.A Think Time : N.A Minimum Instruction Time : 0 Correct Marks : 4 Wrong Marks : 1

An excessive anterior pelvic tilt results in an increase in the lumbar _____ .

1. Anterior convexity
2. Anterior concavity
3. Posterior convexity
4. Posterior concavity

Options :

- 686340169041. 1
- 686340169042. 2
- 686340169043. 3
- 686340169044. 4

Question Number : 61 Question Id : 68634042797 Question Type : MCQ Option Shuffling : No Is Question Mandatory : No Calculator : None Response Time : N.A Think Time : N.A Minimum Instruction Time : 0 Correct Marks : 4 Wrong Marks : 1

अत्यधिक अंटीरियर पेल्विक टिल्ट के परिणाम स्वरूप लम्बर की _____ में वृद्धि हो जाएगी।

1. अंटीरियर उत्तलता
2. अंटीरियर अवतलता
3. पोस्टीरियर उत्तलता
4. पोस्टीरियर अवतलता

Options :

- 686340169041. 1
- 686340169042. 2
- 686340169043. 3
- 686340169044. 4

Question Number : 62 Question Id : 68634042798 Question Type : MCQ Option Shuffling : No Is Question Mandatory : No Calculator : None Response Time : N.A Think Time : N.A Minimum Instruction Time : 0 Correct Marks : 4 Wrong Marks : 1

In genu valgum (knock knee), the lateral aspect of the knee complex is subjected to _____ stress.

1. Compressive
2. Subluxation
3. Tensile
4. Distraction

Options :

- 686340169045. 1

686340169046. 2

686340169047. 3

686340169048. 4

Question Number : 62 Question Id : 68634042798 Question Type : MCQ Option Shuffling : No Is Question Mandatory : No Calculator : None Response Time : N.A Think Time : N.A Minimum Instruction Time : 0

Correct Marks : 4 Wrong Marks : 1

जीनू वेलगम (नॉक नी) में घुटने का पार्श्व भाग _____ दाब के अधीनस्थ होता है।

1. कॉम्प्रेसिव
2. सबलक्सेशन
3. टेंसाइल
4. डिस्ट्रैक्शन

Options :

686340169045. 1

686340169046. 2

686340169047. 3

686340169048. 4

Question Number : 63 Question Id : 68634042799 Question Type : MCQ Option Shuffling : No Is Question Mandatory : No Calculator : None Response Time : N.A Think Time : N.A Minimum Instruction Time : 0

Correct Marks : 4 Wrong Marks : 1

Non weight bearing supination of subtalar joint is composed of the coupled calcaneal motions of:-

1. Abduction, eversion, dorsiflexion
2. Abduction, inversion, Plantarflexion
3. Adduction, eversion, dorsiflexion
4. Adduction, inversion, Plantarflexion

Options :

686340169049. 1

686340169050. 2

686340169051. 3

686340169052. 4

Question Number : 63 Question Id : 68634042799 Question Type : MCQ Option Shuffling : No Is Question Mandatory : No Calculator : None Response Time : N.A Think Time : N.A Minimum Instruction Time : 0

Correct Marks : 4 Wrong Marks : 1

भार न सहने वाली स्थिति में सबटेलेर जोड़ का सूपिनेशन इन कैल्केनियल मोशन से बनता है:

1. अब्डक्शन, इवर्जन, डॉर्सिफ्लैक्शन
2. अब्डक्शन, इवर्जन, प्लांटरफ्लैक्शन
3. अडक्शन, इवर्जन, डॉर्सिफ्लैक्शन
4. अडक्शन, इवर्जन, प्लांटरफ्लैक्शन

Options :

686340169049. 1
686340169050. 2
686340169051. 3
686340169052. 4

Question Number : 64 Question Id : 68634042800 Question Type : MCQ Option Shuffling : No Is Question Mandatory : No Calculator : None Response Time : N.A Think Time : N.A Minimum Instruction Time : 0 Correct Marks : 4 Wrong Marks : 1

The motions that accompany active motion but are not under voluntary control are called

1. rotational motion
2. Complementary motion
3. Component motion
4. Supplementary motion

Options :

686340169053. 1
686340169054. 2
686340169055. 3
686340169056. 4

Question Number : 64 Question Id : 68634042800 Question Type : MCQ Option Shuffling : No Is Question Mandatory : No Calculator : None Response Time : N.A Think Time : N.A Minimum Instruction Time : 0 Correct Marks : 4 Wrong Marks : 1

वे मोशन, जो सक्रिय गतिविधियों के साथ होते हैं लेकिन स्वैच्छिक नियंत्रण में नहीं होते हैं, _____ कहलाते हैं।

1. रोटेशनल मोशन
2. कॉम्प्लीमेंटरी मोशन
3. काम्पोनेंट मोशन
4. सप्लीमेंटरी मोशन

Options :

686340169053. 1
686340169054. 2
686340169055. 3
686340169056. 4

**Question Number : 65 Question Id : 68634042801 Question Type : MCQ Option Shuffling : No Is Question Mandatory :
No Calculator : None Response Time : N.A Think Time : N.A Minimum Instruction Time : 0
Correct Marks : 4 Wrong Marks : 1**

Scapular anterior and posterior tipping at acromioclavicular joint are named with reference to _____ aspect of scapula.

1. Inferior
2. Superior
3. Medial
4. Lateral

Options :

686340169057. 1
686340169058. 2
686340169059. 3
686340169060. 4

**Question Number : 65 Question Id : 68634042801 Question Type : MCQ Option Shuffling : No Is Question Mandatory :
No Calculator : None Response Time : N.A Think Time : N.A Minimum Instruction Time : 0
Correct Marks : 4 Wrong Marks : 1**

एक्रोमियोक्लेविकुलर जोड़ पर स्कैपुलर एंटीरियर और पोस्टीरियर टिपिंग स्कैपुला के _____ भाग के संदर्भ में नामित किए जाते हैं।

1. इन्फीरियर
2. सुपीरियर
3. मीडियल
4. लेटरल

Options :

686340169057. 1
686340169058. 2
686340169059. 3
686340169060. 4

**Question Number : 66 Question Id : 68634042802 Question Type : MCQ Option Shuffling : No Is Question Mandatory :
No Calculator : None Response Time : N.A Think Time : N.A Minimum Instruction Time : 0
Correct Marks : 4 Wrong Marks : 1**

Given below are two statements: One is labelled as Assertion (A) and the other is labelled as Reason (R)

Assertion (A): Thoracic outlet syndrome presents with tingling, burning, paraesthesia along the medial border of palm and forearm with atrophy and weakness of hypothenar muscles, medial 2 lumbricals, interossei, flexor capri ulnaris and flexor digitorum profundus.

Reason (R): Caused by abnormal compression of neurovascular structures that pass through the outlet and the common nerve roots involved are C₈ and T₁.

In the light of the above statements, choose the **correct** answer from the options given below:

1. Both (A) and (R) are true and (R) is the correct explanation of (A)
2. Both (A) and (R) are true but (R) is NOT the correct explanation of (A)
3. (A) is true but (R) is false
4. (A) is false but (R) is true

Options :

- 686340169061. 1
- 686340169062. 2
- 686340169063. 3
- 686340169064. 4

Question Number : 66 Question Id : 68634042802 Question Type : MCQ Option Shuffling : No Is Question Mandatory : No Calculator : None Response Time : N.A Think Time : N.A Minimum Instruction Time : 0

Correct Marks : 4 Wrong Marks : 1

नीचे दो कथन दिए गए हैं: एक अभिकथन (Assertion A) के रूप में लिखित है तो दूसरा उसके कारण (Reason R) के रूप में:

अभिकथन A : वक्षीय निर्गम संलक्षण में हस्त और अग्रबाहु के मीडियल बार्डर में झनझनाहट, जलन और अपसंवेदना के साथ होइपोथीयर, मीडियल 2 लम्ब्राइकल, इण्टरओशिया, फ्लैक्सर कार्पी अल्नेरिस और फ्लैक्सर डिजिटोरम प्रोफण्डस पेशियों की अपुष्टि एवं दुर्बलता होती है।

कारण R : यह निर्गम से निकलने वाले तंत्रिकासंवहनी संरचनाओं पर अपसामान्य संपीडन के कारण होता है और इसमें सामान्यतः C₈ और T₁ नर्व-रूट प्रभावित होते हैं।

उपरोक्त कथन के आलोक में, नीचे दिए गए विकल्पों में से सही उत्तर का चयन कीजिए:

1. A और R दोनों सत्य हैं और R, A की सही व्याख्या है
2. A और R दोनों सत्य हैं, लेकिन R, A की सही व्याख्या नहीं है
3. A सत्य है, लेकिन R असत्य है
4. A असत्य है, लेकिन R सत्य है

Options :

- 686340169061. 1
- 686340169062. 2
- 686340169063. 3

Question Number : 67 Question Id : 68634042803 Question Type : MCQ Option Shuffling : No Is Question Mandatory : No Calculator : None Response Time : N.A Think Time : N.A Minimum Instruction Time : 0 Correct Marks : 4 Wrong Marks : 1

Given below are two statements: One is labelled as Assertion (A) and the other is labelled as Reason (R)

Assertion (A): Evidence based medicine is defined as the integration of best research evidence with clinical expertise and patient values.

Reason (R): Systematic reviews, which is comprehensive examination of literature, is another terminology used for evidence based medicine

In the light of the above statements, choose the correct answer from the options given below:

1. Both (A) and (R) are true and (R) is the correct explanation of (A)
2. Both (A) and (R) are true but (R) is NOT the correct explanation of (A)
3. (A) is true but (R) is false
4. (A) is false but (R) is true

Options :

- 686340169065. 1
- 686340169066. 2
- 686340169067. 3
- 686340169068. 4

Question Number : 67 Question Id : 68634042803 Question Type : MCQ Option Shuffling : No Is Question Mandatory : No Calculator : None Response Time : N.A Think Time : N.A Minimum Instruction Time : 0 Correct Marks : 4 Wrong Marks : 1

नीचे दो कथन दिए गए हैं: एक अभिकथन (Assertion A) के रूप में लिखित है तो दूसरा उसके कारण (Reason R) के रूप में:

अभिकथन A : साक्ष्य आधारित चिकित्सा सर्वोत्तम शोध साक्ष्य की नैदानिक सुविज्ञता और रोगी की मान्यताओं के साथ एकीकरण है।

कारण R : व्यवस्थित समीक्षा, जो कि साहित्य का व्यापक परीक्षण है, साक्ष्य आधारित चिकित्सा के लिए प्रयुक्त दूसरी शब्दावली है।

उपरोक्त कथन के आलोक में, नीचे दिए गए विकल्पों में से सही उत्तर का चयन कीजिए:

1. A और R दोनों सत्य हैं और R, A की सही व्याख्या है
2. A और R दोनों सत्य हैं, लेकिन R, A की सही व्याख्या नहीं है
3. A सत्य है, लेकिन R असत्य है
4. A असत्य है, लेकिन R सत्य है

Options :

- 686340169065. 1
- 686340169066. 2
- 686340169067. 3
- 686340169068. 4

Question Number : 68 Question Id : 68634042804 Question Type : MCQ Option Shuffling : No Is Question Mandatory : No Calculator : None Response Time : N.A Think Time : N.A Minimum Instruction Time : 0 Correct Marks : 4 Wrong Marks : 1

Given below are two statements: One is labelled as Assertion (A) and the other is labelled as Reason (R)

Assertion (A): Pursed lip breathing should be taught to every patient with COPD.

Reason (R): Pursed lip breathing improves breath control and is a potential strategy to reduce respiratory rate.

In the light of the above statements, choose the correct answer from the options given below:

1. Both (A) and (R) are true and (R) is the correct explanation of (A)
2. Both (A) and (R) are true but (R) is NOT the correct explanation of (A)
3. (A) is true but (R) is false
4. (A) is false but (R) is true

Options :

- 686340169069. 1
- 686340169070. 2
- 686340169071. 3
- 686340169072. 4

Question Number : 68 Question Id : 68634042804 Question Type : MCQ Option Shuffling : No Is Question Mandatory : No Calculator : None Response Time : N.A Think Time : N.A Minimum Instruction Time : 0 Correct Marks : 4 Wrong Marks : 1

नीचे दो कथन दिए गए हैं: एक अभिकथन (Assertion A) के रूप में लिखित है तो दूसरा उसके कारण (Reason R) के रूप में:

अभिकथन A : COPD के प्रत्येक रोगी को पर्स्ट-लिप श्वसन सिखाया जाना चाहिए।

कारण R : पर्स्ट-लिप श्वसन श्वास-नियंत्रण को बढ़ाता है और यह श्वसन दर को घटाने की संभावित नीति है।

उपरोक्त कथन के आलोक में, नीचे दिए गए विकल्पों में से सही उत्तर का चयन कीजिए:

1. A और R दोनों सत्य हैं और R, A की सही व्याख्या है
2. A और R दोनों सत्य हैं, लेकिन R, A की सही व्याख्या नहीं है
3. A सत्य है, लेकिन R असत्य है
4. A सत्य है, लेकिन R असत्य है

Options :

- 686340169069. 1
- 686340169070. 2

686340169071. 3

686340169072. 4

Question Number : 69 Question Id : 68634042805 Question Type : MCQ Option Shuffling : No Is Question Mandatory : No Calculator : None Response Time : N.A Think Time : N.A Minimum Instruction Time : 0

Correct Marks : 4 Wrong Marks : 1

Given below are two statements: One is labelled as Assertion (A) and the other is labelled as Reason (R)

Assertion (A): During ultrasound application, standing waves are formed if the transducer head is not moved during the treatment.

Reason (R): Cavitation is the formation of tiny gas bubbles in the tissues as a result of ultrasound vibration.

In the light of the above statements, choose the correct answer from the options given below:

1. Both (A) and (R) are true and (R) is the correct explanation of (A)
2. Both (A) and (R) are true but (R) is NOT the correct explanation of (A)
3. (A) is true but (R) is false
4. (A) is false but (R) is true

Options :

686340169073. 1

686340169074. 2

686340169075. 3

686340169076. 4

Question Number : 69 Question Id : 68634042805 Question Type : MCQ Option Shuffling : No Is Question Mandatory : No Calculator : None Response Time : N.A Think Time : N.A Minimum Instruction Time : 0

Correct Marks : 4 Wrong Marks : 1

नीचे दो कथन दिए गए हैं: एक अभिकथन (Assertion A) के रूप में लिखित है तो दूसरा उसके कारण (Reason R) के रूप में:

अभिकथन A : अल्ट्रासाउण्ड के प्रयोग के दौरान उपचार में ट्रान्सड्यूसर के शीर्ष को न हिलाने की स्थिति में स्टैंडिंग तरंगें उत्पन्न होती हैं।

कारण R : अल्ट्रासाउण्ड की कंपन के परिणाम स्वरूप ऊतकों में गैस के छोटे बुलबुलों के उत्पादन को कैविटेशन कहते हैं।

उपरोक्त कथन के आलोक में, नीचे दिए गए विकल्पों में से सही उत्तर का चयन कीजिए:

1. A और R दोनों सत्य हैं और R, A की सही व्याख्या है
2. A और R दोनों सत्य हैं, लेकिन R, A की सही व्याख्या नहीं है
3. A सत्य है, लेकिन R असत्य है
4. A असत्य है, लेकिन R सत्य है

Options :

686340169073. 1
686340169074. 2
686340169075. 3
686340169076. 4

**Question Number : 70 Question Id : 68634042806 Question Type : MCQ Option Shuffling : No Is Question Mandatory :
No Calculator : None Response Time : N.A Think Time : N.A Minimum Instruction Time : 0
Correct Marks : 4 Wrong Marks : 1**

Given below are two statements: One is labelled as Assertion (A) and the other is labelled as Reason (R)

Assertion (A): The plasma membrane of excitable cells exhibits an electrical potential difference (voltage) across the membrane termed as the Resting membrane potential (RMP).

Reason (R): Unequal distribution of ions in the extracellular fluid and cytosol is a major factor that contributes to RMP.

In the light of the above statements, choose the correct answer from the options given below:

1. Both (A) and (R) are true and (R) is the correct explanation of (A)
2. Both (A) and (R) are true but (R) is NOT the correct explanation of (A)
3. (A) is true but (R) is false
4. (A) is false but (R) is true

Options :

686340169077. 1
686340169078. 2
686340169079. 3
686340169080. 4

**Question Number : 70 Question Id : 68634042806 Question Type : MCQ Option Shuffling : No Is Question Mandatory :
No Calculator : None Response Time : N.A Think Time : N.A Minimum Instruction Time : 0
Correct Marks : 4 Wrong Marks : 1**

नीचे दो कथन दिए गए हैं: एक अभिकथन (Assertion A) के रूप में लिखित है तो दूसरा उसके कारण (Reason R) के रूप में:

अभिकथन A : उत्तेजनीय कोशिकाओं की प्रद्रव्य झिल्ली द्वारा झिल्ली के आरपार प्रदर्शित वैद्युत विभवांतर (वोल्टता) रेस्टिंग झिल्ली विभव कहलाता है।

कारण R : कोशिकाबाह्य तरल और कोशिका द्रव्य में आयनों का असमान वितरण एक मुख्य कारक है जो RMP में योगदान करता है।

उपरोक्त कथन के आलोक में, नीचे दिए गए विकल्पों में से सही उत्तर का चयन कीजिए:

1. A और R दोनों सत्य हैं और R, A की सही व्याख्या है
2. A और R दोनों सत्य हैं, लेकिन R, A की सही व्याख्या नहीं है
3. A सत्य है, लेकिन R असत्य है
4. A असत्य है, लेकिन R सत्य है

Options :

686340169077. 1
686340169078. 2
686340169079. 3
686340169080. 4

Question Number : 71 Question Id : 68634042807 Question Type : MCQ Option Shuffling : No Is Question Mandatory : No Calculator : None Response Time : N.A Think Time : N.A Minimum Instruction Time : 0

Correct Marks : 4 Wrong Marks : 1

Given below are two statements: One is labelled as Assertion (A) and the other is labelled as Reason (R)

Assertion (A): Dowager's hump is an excessively kyphotic condition found in postmenopausal women who have osteoporosis.

Reason (R): The anterior aspect of the bodies of a series of vertebrae collapse causing a lack of anterior support for a segment of the thoracic vertebral column, which bends forward causing an increase in posterior convexity

In the light of the above statements, choose the most appropriate answer from the options given below:

1. Both (A) and (R) are correct and (R) is the correct explanation of (A)
2. Both (A) and (R) are correct but (R) is NOT the correct explanation of (A)
3. (A) is correct but (R) is not correct
4. (A) is not correct but (R) is correct

Options :

686340169081. 1

686340169082. 2

686340169083. 3

686340169084. 4

Question Number : 71 Question Id : 68634042807 Question Type : MCQ Option Shuffling : No Is Question Mandatory : No Calculator : None Response Time : N.A Think Time : N.A Minimum Instruction Time : 0

Correct Marks : 4 Wrong Marks : 1

नीचे दो कथन दिए गए हैं: एक अभिकथन (Assertion A) के रूप में लिखित है तो दूसरा उसके कारण (Reason R) के रूप में:

अभिकथन A : डोवेजर्स हम्म अस्थिसुषिरता से पीड़ित रजोनिवृत्तिपश्ची महिलाओं में दिखने वाला अत्यधिक कुबड़ापन है।
कारण R : श्रेणीबद्ध कशेरुकों के अग्रभाग के विफलन के कारण वक्षीय कशेरुक स्तंभ के खण्ड के अग्रभाग में स्थिरता का अभाव होता है जिससे वह आगे झुक जाता है और पीछे की ओर से उत्तलता में वृद्धि हो जाती है।
उपरोक्त कथन के आलोक में, नीचे दिए गए विकल्पों में से सही उत्तर का चयन कीजिए:

1. A और R दोनों सत्य हैं और R, A की सही व्याख्या है
2. A और R दोनों सत्य हैं, लेकिन R, A की सही व्याख्या नहीं है
3. A सत्य है, लेकिन R असत्य है
4. A असत्य है, लेकिन R सत्य है

Options :

686340169081. 1

686340169082. 2

686340169083. 3

686340169084. 4

Question Number : 72 Question Id : 68634042808 Question Type : MCQ Option Shuffling : No Is Question Mandatory : No Calculator : None Response Time : N.A Think Time : N.A Minimum Instruction Time : 0

Correct Marks : 4 Wrong Marks : 1

Given below are two statements: One is labelled as Assertion (A) and the other is labelled as Reason (R)

Assertion (A): During warm-up period, there is an increase in muscle temperature.

Reason (R): The higher muscle temperature increases muscle viscosity and reduces the rate of nerve conduction.

In the light of the above statements, choose the correct answer from the options given below:

1. Both (A) and (R) are true and (R) is the correct explanation of (A)
2. Both (A) and (R) are true but (R) is NOT the correct explanation of (A)
3. (A) is true but (R) is false
4. (A) is false but (R) is true

Options :

686340169085. 1

686340169086. 2
686340169087. 3
686340169088. 4

Question Number : 72 Question Id : 68634042808 Question Type : MCQ Option Shuffling : No Is Question Mandatory : No Calculator : None Response Time : N.A Think Time : N.A Minimum Instruction Time : 0

Correct Marks : 4 Wrong Marks : 1

नीचे दो कथन दिए गए हैं: एक अभिकथन (Assertion A) के रूप में लिखित है तो दूसरा उसके कारण (Reason R) के रूप में:

अभिकथन A : वार्म-अप के दौरान पेशीय तापमान में वृद्धि होती है।

कारण R : पेशी का बढ़ा हुआ तापमान पेशीय श्यानता को बढ़ाता है और तंत्रिका चालन की गति को कम करता है। उपरोक्त कथन के आलोक में, नीचे दिए गए विकल्पों में से सही उत्तर का चयन कीजिए:

1. A और R दोनों सत्य हैं और R, A की सही व्याख्या है
2. A और R दोनों सत्य हैं, लेकिन R, A की सही व्याख्या नहीं है
3. A सत्य है, लेकिन R असत्य है
4. A असत्य है, लेकिन R सत्य है

Options :

686340169085. 1
686340169086. 2
686340169087. 3
686340169088. 4

Question Number : 73 Question Id : 68634042809 Question Type : MCQ Option Shuffling : No Is Question Mandatory : No Calculator : None Response Time : N.A Think Time : N.A Minimum Instruction Time : 0

Correct Marks : 4 Wrong Marks : 1

Female athlete triad describes syndrome of disorders:-

- A. Disordered eating
- B. Insulin sensitivity
- C. Amenorrhea
- D. Osteoarthritis
- E. Osteoporosis

Choose the correct answer from the options given below:

1. A, C, E
2. B, D, E
3. A, D, E
4. A, B, D, E

Options :

686340169089. 1
686340169090. 2

686340169091. 3

686340169092. 4

Question Number : 73 Question Id : 68634042809 Question Type : MCQ Option Shuffling : No Is Question Mandatory : No Calculator : None Response Time : N.A Think Time : N.A Minimum Instruction Time : 0

Correct Marks : 4 Wrong Marks : 1

महिला खिलाड़ी त्रिक इन विकारों के संलक्षण का वर्णन करता है:

- A. विकृत खानपान
- B. इंसुलिन संवेदनशीलता
- C. अनार्तव
- D. ऑस्टियोआर्थ्राइटिस
- E. अस्थिसुषिरता

नीचे दिए गए विकल्पों में से सही उत्तर का चयन कीजिए:

1. A, C, E
2. B, D, E
3. A, D, E
4. A, B, D, E

Options :

686340169089. 1

686340169090. 2

686340169091. 3

686340169092. 4

Question Number : 74 Question Id : 68634042810 Question Type : MCQ Option Shuffling : No Is Question Mandatory : No Calculator : None Response Time : N.A Think Time : N.A Minimum Instruction Time : 0

Correct Marks : 4 Wrong Marks : 1

Steps in formulation of a research problem.

- A. Dissert the broad area into subareas
- B. select what is of most interest to you
- C. formulate objectives
- D. raise research questions
- E. identify a broad field

Choose the correct answer from the options given below:

- 1. E, A, B, C, D
- 2. E, A, B, D, C
- 3. E, A, D, B, C
- 4. A, E, D, B, C

Options :

- 686340169093. 1
- 686340169094. 2
- 686340169095. 3
- 686340169096. 4

Question Number : 74 Question Id : 68634042810 Question Type : MCQ Option Shuffling : No Is Question Mandatory : No Calculator : None Response Time : N.A Think Time : N.A Minimum Instruction Time : 0

Correct Marks : 4 Wrong Marks : 1

अध्ययन समस्या के सूत्रीकरण के चरणों का क्रम:

- A. विस्तृत क्षेत्रों को उपक्षेत्रों में विच्छेदित करना
- B. स्वयं को सबसे रुचिकर लगाने वाले का चयन करना
- C. उद्देश्यों को सूत्रबद्ध करना
- D. अध्ययन प्रश्न को उठाना
- E. विस्तृत क्षेत्र की पहचान करना

नीचे दिए गए विकल्पों में से सही उत्तर का चयन कीजिए:

- 1. E, A, B, C, D
- 2. E, A, B, D, C
- 3. E, A, D, B, C
- 4. A, E, D, B, C

Options :

- 686340169093. 1
- 686340169094. 2
- 686340169095. 3
- 686340169096. 4

Question Number : 75 Question Id : 68634042811 Question Type : MCQ Option Shuffling : No Is Question Mandatory : No Calculator : None Response Time : N.A Think Time : N.A Minimum Instruction Time : 0 Correct Marks : 4 Wrong Marks : 1

The correct sequence of electromagnetic radiation in increasing order of frequency:-

- A. Infrared radiation
- B. X-rays
- C. Visible Radiation
- D. Microwaves
- E. Ultraviolet Radiation

Choose the correct answer from the options given below:

- 1. D-B-C-A-E
- 2. D-A-B-C-E
- 3. D-A-C-E-B
- 4. B-E-C-A-D

Options :

- 686340169097. 1
- 686340169098. 2
- 686340169099. 3
- 686340169100. 4

Question Number : 75 Question Id : 68634042811 Question Type : MCQ Option Shuffling : No Is Question Mandatory : No Calculator : None Response Time : N.A Think Time : N.A Minimum Instruction Time : 0 Correct Marks : 4 Wrong Marks : 1

विद्युत चुम्बकीय विकिरणों का बढ़ती हुई आवृत्ति में सही क्रम इस प्रकार है :

- A. अवरक्त विकिरण
- B. X-किरण
- C. दृश्यमान विकिरण
- D. सूक्ष्म तरंग
- E. पराबैंगनी विकिरण

नीचे दिए गए विकल्पों में से सही उत्तर का चयन कीजिए:

- 1. D-B-C-A-E
- 2. D-A-B-C-E
- 3. D-A-C-E-B
- 4. B-E-C-A-D

Options :

686340169097. 1
686340169098. 2
686340169099. 3
686340169100. 4

**Question Number : 76 Question Id : 68634042812 Question Type : MCQ Option Shuffling : No Is Question Mandatory :
No Calculator : None Response Time : N.A Think Time : N.A Minimum Instruction Time : 0
Correct Marks : 4 Wrong Marks : 1**

The correct sequence of hemodynamic changes that occur at the beginning of an inflammatory response is as follows:-

- A. Persistent progressive vasodilation
- B. Transient vasoconstriction
- C. Slowing of microcirculation that causes increased concentration of red cells.
- D. Elevated local hydrostatic pressure resulting in transudation of fluid into the extracellular space
- E. Leucocytic margination.

Choose the correct answer from the options given below:

- 1. B, A, C, D, E
- 2. B, A, D, C, E
- 3. A, B, C, D, E
- 4. A, B, D, C, E

Options :

686340169101. 1
686340169102. 2
686340169103. 3
686340169104. 4

**Question Number : 76 Question Id : 68634042812 Question Type : MCQ Option Shuffling : No Is Question Mandatory :
No Calculator : None Response Time : N.A Think Time : N.A Minimum Instruction Time : 0
Correct Marks : 4 Wrong Marks : 1**

शोध प्रतिक्रिया के आरंभ में होने वाले हीमोडाइनेमिक घटनाओं का उचित क्रम इस प्रकार है:

- A. निरंतर प्रगामी वाहिनी विस्फारण
- B. क्षणिक वाहिका संकीर्णन
- C. सूक्ष्म परिसंचरण का धीमा होना जिससे लाल कोशिकाओं के सांद्रण में वृद्धि होती है
- D. स्थानिक द्रवस्थैतिक दाब में वृद्धि जिससे तरल कोशिकाबाह्य स्थान में प्रारस्रवित होता है
- E. श्वेताणु मार्जिनेशन

नीचे दिए गए विकल्पों में से सही उत्तर का चयन कीजिए:

- 1. B, A, C, D, E
- 2. B, A, D, C, E
- 3. A, B, C, D, E
- 4. A, B, D, C, E

Options :

- 686340169101. 1
- 686340169102. 2
- 686340169103. 3
- 686340169104. 4

Question Number : 77 Question Id : 68634042813 Question Type : MCQ Option Shuffling : No Is Question Mandatory : No Calculator : None Response Time : N.A Think Time : N.A Minimum Instruction Time : 0 Correct Marks : 4 Wrong Marks : 1

The sequence of events during cross-bridge cycle (muscle contraction) are:-

- A. Change in shape of troponin-calcium complex uncovering active sites on actin.
- B. Muscle is at rest.
- C. Arrival of nerve impulse, generation of action potential, release of Ca^{2+} ions.
- D. The cross-bridge uncouples from the active site and retracts.
- E. Linkage of a cross-bridge, ATP splits and the actin myofilament is pulled a short distance past the myosin.

Choose the correct answer from the options given below:

- 1. B, C, E, A, D
- 2. B, C, A, E, D
- 3. B, C, D, A, E
- 4. B, C, E, D, A

Options :

- 686340169105. 1
- 686340169106. 2
- 686340169107. 3

686340169108. 4

Question Number : 77 Question Id : 68634042813 Question Type : MCQ Option Shuffling : No Is Question Mandatory : No Calculator : None Response Time : N.A Think Time : N.A Minimum Instruction Time : 0 Correct Marks : 4 Wrong Marks : 1

क्रॉस-ब्रिज साइकिल (पेशी-संकुचन) में होने वाली घटनाओं का क्रम इस प्रकार है:

- A. ट्रोपोनिन-कैल्सियम कॉम्प्लेक्स के आकार में बदलाव जिससे एक्टिन पर सक्रिय स्थल अनावृत्त होते हैं।
- B. पेशी आराम की अवस्था में है।
- C. तंत्रिका आवेग के आने से क्रिया-विभव की उत्पत्ति और कैल्सियम आयनों का मोचन।
- D. क्रॉस-ब्रिज सक्रिय स्थल से अलग होता है और वापस सिमट जाता है।
- E. क्रॉस-ब्रिज का संयोजन, ATP का टूटना और एक्टिन तंतु मायोसिन से होते हुए एक छोटी दूरी के लिए खींचा जाता है।

नीचे दिए गए विकल्पों में से सही उत्तर का चयन कीजिए:

- 1. B, C, E, A, D
- 2. B, C, A, E, D
- 3. B, C, D, A, E
- 4. B, C, E, D, A

Options :

- 686340169105. 1
- 686340169106. 2
- 686340169107. 3
- 686340169108. 4

Question Number : 78 Question Id : 68634042814 Question Type : MCQ Option Shuffling : No Is Question Mandatory : No Calculator : None Response Time : N.A Think Time : N.A Minimum Instruction Time : 0 Correct Marks : 4 Wrong Marks : 1

The correct sequence of treatment to gain and reinforce functional mobility is as follows:-

- A. Relax the muscles (eg. using grade I or II joint oscillation technique)
- B. Joint mobilization stretches and passive stretch of peri-articular tissues
- C. Warm the tissues
- D. Patient to actively use new range (e.g active ROM techniques)
- E. Maintain new range and instruct patient to do self-stretching, active - resisted ROM exercises and functional activities using the new range

Choose the correct answer from the options given below:

- 1. E, A, B, D, C
- 2. C, A, B, D, E
- 3. C, A, D, B, E
- 4. C, D, A, B, E

Options :

- 686340169109. 1
- 686340169110. 2
- 686340169111. 3
- 686340169112. 4

Question Number : 78 Question Id : 68634042814 Question Type : MCQ Option Shuffling : No Is Question Mandatory : No Calculator : None Response Time : N.A Think Time : N.A Minimum Instruction Time : 0 Correct Marks : 4 Wrong Marks : 1

कार्यात्मक गतिशीलता को प्राप्त करने और सुदृढ़ करने के लिए उपचार का उचित क्रम इस प्रकार है:

- A. पेशियों को विश्रान्त करना (जैसे कि ग्रेड I या II जोड़ की दोलन वाली तकनीक का प्रयोग करके)।
- B. ज्वाइंट मोबिलाइजेशन स्ट्रेच एवं जोड़ के आसपास के ऊतकों का निष्क्रिय स्ट्रेच।
- C. ऊतकों को गरम करना।
- D. रोगी नई रेंज का प्रयोग सक्रिय रूप से करे (जैसे कि सक्रिय ROM तकनीकों द्वारा)।
- E. नई रेंज को कायम रखना और रोगी को नई रेंज का प्रयोग करते हुए सेल्फ-स्ट्रेचिंग, सक्रिय-विरोधात्मक ROM व्यायाम एवं कार्यात्मक गतिविधियां करने के लिए कहना।

नीचे दिए गए विकल्पों में से सही उत्तर का चयन कीजिए:

- 1. E, A, B, D, C
- 2. C, A, B, D, E
- 3. C, A, D, B, E
- 4. C, D, A, B, E

Options :

- 686340169109. 1
- 686340169110. 2

686340169111. 3

686340169112. 4

Question Number : 79 Question Id : 68634042815 Question Type : MCQ Option Shuffling : No Is Question Mandatory : No Calculator : None Response Time : N.A Think Time : N.A Minimum Instruction Time : 0 Correct Marks : 4 Wrong Marks : 1

Capsular pattern of shoulder in adhesive capsulitis

- A. External rotation
- B. Flexion
- C. Abduction
- D. Complete restriction of joint play and osteokinematics
- E. Internal rotation

Choose the correct answer from the options given below:

- 1. E, C, A, B, D
- 2. A, C, D, B, E
- 3. A, C, B, D, E
- 4. A, C, E, B, D

Options :

686340169113. 1

686340169114. 2

686340169115. 3

686340169116. 4

Question Number : 79 Question Id : 68634042815 Question Type : MCQ Option Shuffling : No Is Question Mandatory : No Calculator : None Response Time : N.A Think Time : N.A Minimum Instruction Time : 0 Correct Marks : 4 Wrong Marks : 1

एडहेसिव कैप्सूलाइटिस में कंधे का कैप्सूलर पैटर्न:

- A. एक्सटर्नल रोटेशन
- B. फ्लैक्शन
- C. अब्डक्शन
- D. ज्वाइंट प्ले एवं ऑस्टियोकाइनेमैटिक का पूर्ण रूप से बाधित होना
- E. इंटर्नल रोटेशन

नीचे दिए गए विकल्पों में से सही उत्तर का चयन कीजिए:

- 1. E, C, A, B, D
- 2. A, C, D, B, E
- 3. A, C, B, D, E
- 4. A, C, E, B, D

Options :

- 686340169113. 1
- 686340169114. 2
- 686340169115. 3
- 686340169116. 4

Question Number : 80 Question Id : 68634042816 Question Type : MCQ Option Shuffling : No Is Question Mandatory : No Calculator : None Response Time : N.A Think Time : N.A Minimum Instruction Time : 0

Correct Marks : 4 Wrong Marks : 1

Given below are two statements:

Statement I: Developmental Dysplasia of the hip is characterized by the presence of Klisic sign, Ortolani test of reduction and Barlow test of exit.

Statement II: Treatment of choice for the Development Dysplasia of the hip is providing the child with Dennis-Brown Splint.

In the light of the above statements, choose the *correct answer* from the options given below

- 1. Both Statement I and Statement II are true
- 2. Both Statement I and Statement II are false
- 3. Statement I is true but Statement II is false
- 4. Statement I is false but Statement II is true

Options :

- 686340169117. 1
- 686340169118. 2
- 686340169119. 3
- 686340169120. 4

Question Number : 80 Question Id : 68634042816 Question Type : MCQ Option Shuffling : No Is Question Mandatory : No Calculator : None Response Time : N.A Think Time : N.A Minimum Instruction Time : 0

Correct Marks : 4 Wrong Marks : 1

नीचे दो कथन दिए गए हैं:

कथन I : कूल्हे का विकासी डिस्प्लेसिया क्लसिक साइन, ऑर्टोलानी टेस्ट ऑफ रिडक्शन और बार्लो टेस्ट ऑफ एक्सिट की उपस्थिति से अभिलक्षित है।

कथन II : कूल्हे के विकासी डिस्प्लेसिया के उपचार के चुनाव में बालक को डेनिस-ब्राउन स्प्लेंट दिया जाता है। उपरोक्त कथन के आलोक में, नीचे दिए गए विकल्पों में से सही उत्तर का चयन कीजिए:

1. कथन I और II दोनों सत्य हैं
2. कथन I और II दोनों असत्य हैं
3. कथन I सत्य है, लेकिन कथन II असत्य है
4. कथन I असत्य है, लेकिन कथन II सत्य है

Options :

- 686340169117. 1
- 686340169118. 2
- 686340169119. 3
- 686340169120. 4

Question Number : 81 Question Id : 68634042817 Question Type : MCQ Option Shuffling : No Is Question Mandatory : No Calculator : None Response Time : N.A Think Time : N.A Minimum Instruction Time : 0

Correct Marks : 4 Wrong Marks : 1

Given below are two statements:

Statement I: Beneficence for a physiotherapist means that he should work in such a way that he prevent harm and not injure a patient.

Statement II: Nonmaleficence for a physiotherapist means that he should do what is best for the patient.

In the light of the above statements, choose the *correct* answer from the options given below

1. Both Statement I and Statement II are true
2. Both Statement I and Statement II are false
3. Statement I is true but Statement II is false
4. Statement I is false but Statement II is true

Options :

- 686340169121. 1
- 686340169122. 2
- 686340169123. 3
- 686340169124. 4

Question Number : 81 Question Id : 68634042817 Question Type : MCQ Option Shuffling : No Is Question Mandatory : No Calculator : None Response Time : N.A Think Time : N.A Minimum Instruction Time : 0

Correct Marks : 4 Wrong Marks : 1

नीचे दो कथन दिए गए हैं:

कथन I : भौतिक-चिकित्सक के लिए उपकारिता का अर्थ यह है कि वह इस प्रकार कार्य करे कि वह हानि से बचाए और रोगी को क्षतिग्रस्त न करे।

कथन II : भौतिक चिकित्सक के लिए गैर-अनिष्टकर का अर्थ यह है कि वह रोगी के लिए वह करे जो उसके लिए सर्वोत्तम है।

उपरोक्त कथन के आलोक में, नीचे दिए गए विकल्पों में से सही उत्तर का चयन कीजिए:

1. कथन I और II दोनों सत्य हैं
2. कथन I और II दोनों असत्य हैं
3. कथन I सत्य है, लेकिन कथन II असत्य है
4. कथन I असत्य है, लेकिन कथन II सत्य है

Options :

686340169121. 1

686340169122. 2

686340169123. 3

686340169124. 4

Question Number : 82 Question Id : 68634042818 Question Type : MCQ Option Shuffling : No Is Question Mandatory : No Calculator : None Response Time : N.A Think Time : N.A Minimum Instruction Time : 0

Correct Marks : 4 Wrong Marks : 1

Given below are two statements:

Statement I: Obsessive Compulsive Disorder is an anxiety disorder characterized by persistent, recurring, unpleasant thoughts and repetitive, ritualistic behaviors.

Statement II: Anorexia nervosa is an eating disorder characterized by an obsessive desire to lose weight by refusing to eat.

In the light of the above statements, choose the *correct answer* from the options given below

1. Both Statement I and Statement II are true
2. Both Statement I and Statement II are false
3. Statement I is true but Statement II is false
4. Statement I is false but Statement II is true

Options :

686340169125. 1

686340169126. 2

686340169127. 3

686340169128. 4

Question Number : 82 Question Id : 68634042818 Question Type : MCQ Option Shuffling : No Is Question Mandatory : No Calculator : None Response Time : N.A Think Time : N.A Minimum Instruction Time : 0 Correct Marks : 4 Wrong Marks : 1

नीचे दो कथन दिए गए हैं:

कथन I : आब्सेसिव कम्पल्सिव डिसऑर्डर एक ऐसा दुश्चिन्ता का विकार है जो कि निरंतर, आवर्ती, अरुचिकर विचारों और आवृत्तीय, आनुष्ठानिक व्यवहार से अभिलक्षणित होता है।

कथन II : एनोरेक्सिया नर्वोसा एक खान-पान की विकृति है जो कि खाने को न खाकर वजन घटाने की मनोग्रस्ति चाह से अभिलक्षणित है।

उपरोक्त कथन के आलोक में, नीचे दिए गए विकल्पों में से सही उत्तर का चयन कीजिए:

1. कथन I और II दोनों सत्य हैं
2. कथन I और II दोनों असत्य हैं
3. कथन I सत्य है, लेकिन कथन II असत्य है
4. कथन I असत्य है, लेकिन कथन II सत्य है

Options :

- 686340169125. 1
- 686340169126. 2
- 686340169127. 3
- 686340169128. 4

Question Number : 83 Question Id : 68634042819 Question Type : MCQ Option Shuffling : No Is Question Mandatory : No Calculator : None Response Time : N.A Think Time : N.A Minimum Instruction Time : 0 Correct Marks : 4 Wrong Marks : 1

Given below are two statements:

Statement I: Shock is a life threatening condition characterized by an acute reduction of effective circulating blood volume and an inadequate perfusion of cells.

Statement II: In hypovolaemic shock, there is sudden fall in cardiac output from acute diseases of the heart without actual reduction of blood volume.

In the light of the above statements, choose the *correct* answer from the options given below

1. Both Statement I and Statement II are true
2. Both Statement I and Statement II are false
3. Statement I is true but Statement II is false
4. Statement I is false but Statement II is true

Options :

- 686340169129. 1

686340169130. 2

686340169131. 3

686340169132. 4

Question Number : 83 Question Id : 68634042819 Question Type : MCQ Option Shuffling : No Is Question Mandatory : No Calculator : None Response Time : N.A Think Time : N.A Minimum Instruction Time : 0

Correct Marks : 4 Wrong Marks : 1

नीचे दो कथन दिए गए हैं:

कथन I : शॉक जीवन को जोखिम में डालने वाली वह अवस्था है जो कि परिसंचारी रक्त के प्रभावी आयतन की तीव्र कमी और कोशिकाओं के अपर्याप्त परक्रामण से अभिलक्षित है।

कथन II : हाइपोवॉलमिक शॉक में हृदय के तीव्र विकारों के कारण रक्त के आयतन में वास्तविक कमी हुए बिना कार्डियक आउटपुट में अकस्मात् कमी होती है।

उपरोक्त कथन के आलोक में, नीचे दिए गए विकल्पों में से सही उत्तर का चयन कीजिए:

1. कथन I और II दोनों सत्य हैं
2. कथन I और II दोनों असत्य हैं
3. कथन I सत्य है, लेकिन कथन II असत्य है
4. कथन I असत्य है, लेकिन कथन II सत्य है

Options :

686340169129. 1

686340169130. 2

686340169131. 3

686340169132. 4

Question Number : 84 Question Id : 68634042820 Question Type : MCQ Option Shuffling : No Is Question Mandatory : No Calculator : None Response Time : N.A Think Time : N.A Minimum Instruction Time : 0

Correct Marks : 4 Wrong Marks : 1

Given below are two statements:

Statement I: Autoclave is used to sterilize instruments, linens, utensils, and treatment trays.

Statement II: Autoclave cannot be used for heat sensitive articles.

In the light of the above statements, choose the **correct** answer from the options given below

1. Both Statement I and Statement II are true
2. Both Statement I and Statement II are false
3. Statement I is true but Statement II is false
4. Statement I is false but Statement II is true

Options :

686340169133. 1

686340169134. 2

686340169135. 3

686340169136. 4

Question Number : 84 Question Id : 68634042820 Question Type : MCQ Option Shuffling : No Is Question Mandatory : No Calculator : None Response Time : N.A Think Time : N.A Minimum Instruction Time : 0 Correct Marks : 4 Wrong Marks : 1

नीचे दो कथन दिए गए हैं:

कथन I : ऑटोक्लेव का प्रयोग उपकरणों, लीनेन, औजारों एवं उपचार ट्रे के निजर्मीकरण के लिए होता है।

कथन II : ऑटोक्लेव का प्रयोग ऊष्मा-संवेदी उपकरणों के लिए नहीं किया जा सकता है।

उपरोक्त कथन के आलोक में, नीचे दिए गए विकल्पों में से सही उत्तर का चयन कीजिए:

1. कथन I और II दोनों सत्य हैं
2. कथन I और II दोनों असत्य हैं
3. कथन I सत्य है, लेकिन कथन II असत्य है
4. कथन I असत्य है, लेकिन कथन II सत्य है

Options :

686340169133. 1

686340169134. 2

686340169135. 3

686340169136. 4

Question Number : 85 Question Id : 68634042821 Question Type : MCQ Option Shuffling : No Is Question Mandatory : No Calculator : None Response Time : N.A Think Time : N.A Minimum Instruction Time : 0 Correct Marks : 4 Wrong Marks : 1

Given below are two statements:

Statement I: Slow oxidative muscle fibers are large in diameter and white in colour.

Statement II: Slow oxidative muscle fibers have slow speed of contraction and low rate of fatigue.

In the light of the above statements, choose the *correct* answer from the options given below

1. Both Statement I and Statement II are true
2. Both Statement I and Statement II are false
3. Statement I is true but Statement II is false
4. Statement I is false but Statement II is true

Options :

686340169137. 1

686340169138. 2

686340169139. 3

686340169140. 4

Question Number : 85 Question Id : 68634042821 Question Type : MCQ Option Shuffling : No Is Question Mandatory : No Calculator : None Response Time : N.A Think Time : N.A Minimum Instruction Time : 0 Correct Marks : 4 Wrong Marks : 1

नीचे दो कथन दिए गए हैं:

कथन I : स्लो ऑक्सीडेटिव पेशी के रेशे व्यास में बड़े और रंग में सफेद होते हैं।

कथन II : स्लो ऑक्सीडेटिव पेशी के रेशों की संकुचन की गति कम एवं श्रांति (थकान) की दर कम होती है। उपरोक्त कथन के आलोक में, नीचे दिए गए विकल्पों में से सही उत्तर का चयन कीजिए:

1. कथन I और II दोनों सत्य हैं
2. कथन I और II दोनों असत्य हैं
3. कथन I सत्य है, लेकिन कथन II असत्य है
4. कथन I असत्य है, लेकिन कथन II सत्य है

Options :

- 686340169137. 1
- 686340169138. 2
- 686340169139. 3
- 686340169140. 4

Question Number : 86 Question Id : 68634042822 Question Type : MCQ Option Shuffling : No Is Question Mandatory : No Calculator : None Response Time : N.A Think Time : N.A Minimum Instruction Time : 0 Correct Marks : 4 Wrong Marks : 1

Given below are two statements:

Statement I: Upper abdominal surgeries acts as an extrathoracic restriction and reduces lung volumes resulting in impaired gas exchange and airway clearance.

Statement II: Positioning mobilization, non-invasive positive pressure breathing and pain management are the mainstay physiotherapy in the post operative period in upper abdominal surgeries.

In the light of the above statements, choose the **correct answer** from the options given below

1. Both Statement I and Statement II are true
2. Both Statement I and Statement II are false
3. Statement I is true but Statement II is false
4. Statement I is false but Statement II is true

Options :

- 686340169141. 1
- 686340169142. 2
- 686340169143. 3
- 686340169144. 4

Question Number : 86 Question Id : 68634042822 Question Type : MCQ Option Shuffling : No Is Question Mandatory : No Calculator : None Response Time : N.A Think Time : N.A Minimum Instruction Time : 0

Correct Marks : 4 Wrong Marks : 1

नीचे दो कथन दिए गए हैं:

कथन I : ऊर्ध्व उदर की शल्यक्रियाएँ बहिःवक्षीय परिबंधन की तरह कार्य करती हैं और फेफड़ों के आयतन को घटाकर गैस विनिमय और साव-निष्कासन को बाधित करती हैं।

कथन II : पोजिशनिंग, मोबिलाइजेशन, नॉन-इंवेसिव पॉजिटिव प्रेशर श्वसन और दर्द का प्रबंधन ऊर्ध्व उदर की शल्यक्रियाओं के उपरांत भौतिक चिकित्सा के मुख्य आधार हैं।

उपरोक्त कथन के आलोक में, नीचे दिए गए विकल्पों में से सही उत्तर का चयन कीजिए:

1. कथन I और II दोनों सत्य हैं
2. कथन I और II दोनों असत्य हैं
3. कथन I सत्य है, लेकिन कथन II असत्य है
4. कथन I असत्य है, लेकिन कथन II सत्य है

Options :

686340169141. 1
686340169142. 2
686340169143. 3
686340169144. 4

Question Number : 87 Question Id : 68634042823 Question Type : MCQ Option Shuffling : No Is Question Mandatory : No Calculator : None Response Time : N.A Think Time : N.A Minimum Instruction Time : 0

Correct Marks : 4 Wrong Marks : 1

Stages of Adhesive capsulitis are

- A. Aching
- B. Freezing
- C. Swelling
- D. Thawing
- E. Frozen

Choose the correct answer from the options given below:

1. A, B and C
2. B, C and D
3. C, D and E
4. B, D and E

Options :

686340169145. 1
686340169146. 2
686340169147. 3
686340169148. 4

Question Number : 87 Question Id : 68634042823 Question Type : MCQ Option Shuffling : No Is Question Mandatory : No Calculator : None Response Time : N.A Think Time : N.A Minimum Instruction Time : 0

Correct Marks : 4 Wrong Marks : 1

एडहेसिव कैप्सूलाइटिस के विभिन्न चरण इस प्रकार हैं :

- A. एकिंग
- B. फ्रीजिंग
- C. स्वेलिंग
- D. थॉइंग
- E. फ्रोज़न

नीचे दिए गए विकल्पों में से सही उत्तर का चयन कीजिए:

1. केवल A, B C
2. केवल B, C, D
3. केवल C, D, E
4. केवल B, D, E

Options :

- 686340169145. 1
- 686340169146. 2
- 686340169147. 3
- 686340169148. 4

Question Number : 88 Question Id : 68634042824 Question Type : MCQ Option Shuffling : No Is Question Mandatory : No Calculator : None Response Time : N.A Think Time : N.A Minimum Instruction Time : 0

Correct Marks : 4 Wrong Marks : 1

Which of the following appropriately describes the stages of labour?

- A. Expulsion of Placenta
- B. Uterine prolapse
- C. Pushing and expulsion of foetus
- D. Dilation of Cervix

Choose the correct answer from the options given below:

1. D, C and A only
2. C, D and B only
3. D, B and A only
4. B, C and A only

Options :

- 686340169149. 1
- 686340169150. 2
- 686340169151. 3
- 686340169152. 4

Question Number : 88 Question Id : 68634042824 Question Type : MCQ Option Shuffling : No Is Question Mandatory : No Calculator : None Response Time : N.A Think Time : N.A Minimum Instruction Time : 0 Correct Marks : 4 Wrong Marks : 1

निम्न में से क्या प्रसव-पीड़ा के चरणों का उपयुक्त रूप से वर्णन करते हैं?

- A. गर्भनाल का निष्कासन
- B. गर्भाशय का प्रोलैप्स
- C. भ्रूण को धकेलना एवं निष्कासन
- D. सर्विक्स का विस्फारण

नीचे दिए गए विकल्पों में से सही उत्तर का चयन कीजिए:

- 1. केवल D, C और A
- 2. केवल C, D और B
- 3. केवल D, B और A
- 4. केवल B, C और A

Options :

- 686340169149. 1
- 686340169150. 2
- 686340169151. 3
- 686340169152. 4

Question Number : 89 Question Id : 68634042825 Question Type : MCQ Option Shuffling : No Is Question Mandatory : No Calculator : None Response Time : N.A Think Time : N.A Minimum Instruction Time : 0 Correct Marks : 4 Wrong Marks : 1

Which of the following conform with ethical principles of physiotherapy practice?

- A. Physical therapists should not expect co-operation from their colleagues
- B. Physical therapists cant refuse to treat when the service is not in the best interest of the patient
- C. Physical therapists accept responsibilities for the exercise of sound judgement.
- D. Physical therapists respect the rights and dignity of all individuals.

Choose the correct answer from the options given below:

- 1. A, B and C only
- 2. C and D only
- 3. C, B and D only
- 4. A and D only

Options :

- 686340169153. 1
- 686340169154. 2
- 686340169155. 3
- 686340169156. 4

Question Number : 89 Question Id : 68634042825 Question Type : MCQ Option Shuffling : No Is Question Mandatory : No Calculator : None Response Time : N.A Think Time : N.A Minimum Instruction Time : 0 Correct Marks : 4 Wrong Marks : 1

निम्न में से क्या भौतिक चिकित्सा अभ्यास के नैतिक सिद्धांतों के अनुरूप हैं?

- A. भौतिक चिकित्सक को अपने सहकर्मियों से सहयोग की आशा नहीं रखनी चाहिए।
- B. सेवा के रोगी के हित में न होने वाली स्थिति में भौतिक चिकित्सक उपचार के लिए मना नहीं कर सकता।
- C. भौतिक चिकित्सक विवेकपूर्ण निर्णय के निष्पादन के लिए जिम्मेदारी ले।
- D. भौतिक चिकित्सक सभी व्यक्तियों के अधिकारों एवं प्रतिष्ठा का सम्मान करे।

नीचे दिए गए विकल्पों में से सही उत्तर का चयन कीजिए:

- 1. केवल A, B & C
- 2. केवल C, D
- 3. केवल C, B, D
- 4. केवल A, D

Options :

- 686340169153. 1
- 686340169154. 2
- 686340169155. 3
- 686340169156. 4

Question Number : 90 Question Id : 68634042826 Question Type : MCQ Option Shuffling : No Is Question Mandatory : No Calculator : None Response Time : N.A Think Time : N.A Minimum Instruction Time : 0 Correct Marks : 4 Wrong Marks : 1

Which of the following is a sign muscle fatigue?

- A. Active movements become smooth.
- B. Increase in peak torque during isokinetic testing.
- C. An uncomfortable sensation (like pain/cramps) in the muscle.
- D. Use of substitute motions to complete movement patterns.
- E. Tremulousness in the contracting muscle.

Choose the correct answer from the options given below:

- 1. A, B and C only
- 2. B, C and D only
- 3. C, D and E only
- 4. D, A and E only

Options :

- 686340169157. 1
- 686340169158. 2

686340169159. 3

686340169160. 4

Question Number : 90 Question Id : 68634042826 Question Type : MCQ Option Shuffling : No Is Question Mandatory : No Calculator : None Response Time : N.A Think Time : N.A Minimum Instruction Time : 0

Correct Marks : 4 Wrong Marks : 1

निम्न में से कौन से पेशीय श्रान्ति (थकान) के लक्षण हैं?

- A. सक्रिय गतिविधियां सुकर हो जाती हैं।
- B. आइसोकाइनेटिक प्रशिक्षण के दौरान शीर्ष बल आघूर्ण में वृद्धि।
- C. पेशी में असुविधाजनक संवेदना (जैसे कि दर्द, क्रैम्प)
- D. गतिविधियों को पूर्ण करने के लिए त्रुटिपूरक गतिविधियों का प्रयोग
- E. संकुचनशील पेशी का कांपना

नीचे दिए गए विकल्पों में से सही उत्तर का चयन कीजिए:

- 1. केवल A, B, C
- 2. केवल B, C, D
- 3. केवल C, D, E
- 4. केवल D, A, E

Options :

686340169157. 1

686340169158. 2

686340169159. 3

686340169160. 4

Question Number : 91 Question Id : 68634042827 Question Type : MCQ Option Shuffling : No Is Question Mandatory : No Calculator : None Response Time : N.A Think Time : N.A Minimum Instruction Time : 0

Correct Marks : 4 Wrong Marks : 1

During TENS application, electrodes may be placed:-

- A. Over or close to the painful area.
- B. Over the corresponding dermatome/myotome
- C. Over insensitive skin
- D. Over the pharyngeal area
- E. Over the nerve roots close to the vertebral column

Choose the correct answer from the options given below:

- 1. A, B, C only
- 2. A, B, E only
- 3. B, C, E only
- 4. B, D, E only

Options :

- 686340169161. 1
- 686340169162. 2
- 686340169163. 3
- 686340169164. 4

Question Number : 91 Question Id : 68634042827 Question Type : MCQ Option Shuffling : No Is Question Mandatory : No Calculator : None Response Time : N.A Think Time : N.A Minimum Instruction Time : 0 Correct Marks : 4 Wrong Marks : 1

TENS के प्रयोग के दौरान इलैक्ट्रोड _____ स्थापित की जा सकती हैं।

- A. दर्द वाले क्षेत्र पर या उसके समीप
- B. सुदृश चर्मजन अथवा आदिपेशी खण्ड पर
- C. असंवेदनशील त्वचा पर
- D. ग्रसनी क्षेत्र पर
- E. कशेरुक दंड के समीप नर्व-रुट पर

नीचे दिए गए विकल्पों में से सही उत्तर का चयन कीजिए:

- 1. केवल A, B, C
- 2. केवल A, B, E
- 3. केवल B, C, E
- 4. केवल B, D, E

Options :

- 686340169161. 1
- 686340169162. 2
- 686340169163. 3
- 686340169164. 4

Question Number : 92 Question Id : 68634042828 Question Type : MCQ Option Shuffling : No Is Question Mandatory : No Calculator : None Response Time : N.A Think Time : N.A Minimum Instruction Time : 0 Correct Marks : 4 Wrong Marks : 1

Which of the following are the part of hip bone of Pelvic girdle?

- A. Ischium
- B. Femur
- C. Ilium
- D. Pubis

Choose the correct answer from the options given below:

1. A, B, C only
2. B, C, D only
3. A, C, D only
4. B, C, A only

Options :

- 686340169165. 1
- 686340169166. 2
- 686340169167. 3
- 686340169168. 4

Question Number : 92 Question Id : 68634042828 Question Type : MCQ Option Shuffling : No Is Question Mandatory : No Calculator : None Response Time : N.A Think Time : N.A Minimum Instruction Time : 0 Correct Marks : 4 Wrong Marks : 1

निम्न में से कौन से श्रोणि मेखला की कूल्हे की हड्डी का भाग हैं?

- A. इश्चियम
- B. फीमर
- C. इलियम
- D. प्यूबिस

नीचे दिए गए विकल्पों में से सही उत्तर का चयन कीजिए:

1. केवल A, B, C
2. केवल B, C, D
3. केवल A, C, D
4. केवल B, C, A

Options :

- 686340169165. 1
- 686340169166. 2
- 686340169167. 3
- 686340169168. 4

Question Number : 93 Question Id : 68634042829 Question Type : MCQ Option Shuffling : No Is Question Mandatory : No Calculator : None Response Time : N.A Think Time : N.A Minimum Instruction Time : 0

Correct Marks : 4 Wrong Marks : 1

Structures involved in middle cerebral artery syndrome are

- A. Primary Motor cortex and internal capsule
- B. Primary visual cortex or optic radiation
- C. Left occipital lobe
- D. Parietal lobe

Choose the correct answer from the options given below:

- 1. A, B only
- 2. B, C only
- 3. C, D only
- 4. D, A only

Options :

- 686340169169. 1
- 686340169170. 2
- 686340169171. 3
- 686340169172. 4

Question Number : 93 Question Id : 68634042829 Question Type : MCQ Option Shuffling : No Is Question Mandatory : No Calculator : None Response Time : N.A Think Time : N.A Minimum Instruction Time : 0

Correct Marks : 4 Wrong Marks : 1

मिडल प्रमस्तिष्क धमनी संलक्षण में प्रभावित संरचनाएँ ये हैं:

- A. प्राइमरी मोटर कार्टेक्स और इंटर्नल कैप्सूल
- B. प्राइमरी विजुअल कार्टेक्स या आष्टिक रेडिएशन
- C. बाई ऑक्सिपिटल लोब
- D. पेराइटल लोब

नीचे दिए गए विकल्पों में से सही उत्तर का चयन कीजिए:

- 1. केवल A, B
- 2. केवल B, C
- 3. केवल C, D
- 4. केवल D, A

Options :

- 686340169169. 1
- 686340169170. 2
- 686340169171. 3
- 686340169172. 4

Question Number : 94 Question Id : 68634042830 Question Type : MCQ Option Shuffling : No Is Question Mandatory : No Calculator : None Response Time : N.A Think Time : N.A Minimum Instruction Time : 0
Correct Marks : 4 Wrong Marks : 1

Match List I with List II

LIST I		LIST II	
A.	Blood Clotting	I.	Vitamin B ₆ , B ₁₂ , C, Folate
B.	Blood formation	II.	Vitamin A
C.	Eye Function	III.	Vitamin K
D.	Bones	IV.	Vitamin A, D, C

Choose the correct answer from the options given below:

1. A-III, B-I, C-II, D-IV
2. A-I, B-III, C-II, D-IV
3. A-II, B-III, C-IV, D-I
4. A-II, B-IV, C-III, D-I

Options :

686340169173. 1
686340169174. 2
686340169175. 3
686340169176. 4

Question Number : 94 Question Id : 68634042830 Question Type : MCQ Option Shuffling : No Is Question Mandatory : No Calculator : None Response Time : N.A Think Time : N.A Minimum Instruction Time : 0
Correct Marks : 4 Wrong Marks : 1

सूची I के साथ सूची II का मिलान कीजिए

सूची I		सूची II	
A.	रुधिर स्कंदन	I.	विटामिन B ₆ , B ₁₂ , C, फोलेट
B.	रुधिर निर्माण	II.	विटामिन A
C.	आँखों के कार्य	III.	विटामिन K
D.	अस्थियाँ	IV.	विटामिन A, D, C

नीचे दिए गए विकल्पों में से सही उत्तर का चयन कीजिए :

1. A-III, B-I, C-II, D-IV
2. A-I, B-III, C-II, D-IV
3. A-II, B-III, C-IV, D-I
4. A-II, B-IV, C-III, D-I

Options :

686340169173. 1
686340169174. 2

686340169175. 3

686340169176. 4

Question Number : 95 Question Id : 68634042831 Question Type : MCQ Option Shuffling : No Is Question Mandatory : No Calculator : None Response Time : N.A Think Time : N.A Minimum Instruction Time : 0 Correct Marks : 4 Wrong Marks : 1

Match List I with List II

LIST I		LIST II	
A.	A political system that denies popular participation in government	I.	Capitalism
B.	An organizational model rationally designed to perform complex tasks efficiently	II.	Authoritarianism
C.	Diverse economic systems which stress private ownership, profit and free markets	III.	Bureaucracy
D.	The process by which some nations enrich themselves through political and economic control of other countries	IV.	Colonialism

Choose the correct answer from the options given below:

1. A-II, B-III, C-IV, D-I
2. A-III, B-II, C-IV, D-I
3. A-III, B-II, C-I, D-IV
4. A-II, B-III, C-I, D-IV

Options :

686340169177. 1

686340169178. 2

686340169179. 3

686340169180. 4

Question Number : 95 Question Id : 68634042831 Question Type : MCQ Option Shuffling : No Is Question Mandatory : No Calculator : None Response Time : N.A Think Time : N.A Minimum Instruction Time : 0 Correct Marks : 4 Wrong Marks : 1

सूची I के साथ सूची II का मिलान कीजिए

सूची I		सूची II	
A.	राजनीतिक प्रणाली जिसमें सरकार में सामान्य हिस्सेदारी अस्वीकृत होती है।	I.	पूँजीवाद
B.	संगठन का मॉडल जिसे जटिल कार्यों को कुशलता से करने के लिए विवेकपूर्ण अभिकल्पित किया गया है	II.	सत्तावादी
C.	विविध आर्थिक प्रणाली जिसमें निजी स्वामित्व, लाभ और मुक्त बाज़ार पर बल दिया जाता है।	III.	नौकरशाही
D.	वह प्रक्रिया जिसके द्वारा कुछ देश दूसरे देशों के राजनीतिक और आर्थिक नियंत्रण द्वारा स्वयं को समृद्ध बनाते हैं।	IV.	उपनिवेशवाद

नीचे दिए गए विकल्पों में से सही उत्तर का चयन कीजिए :

1. A-II, B-III, C-IV, D-I

2. A-III, B-II, C-IV, D-I

3. A-III, B-II, C-I, D-IV

4. A-II, B-III, C-I, D-IV

Options :

686340169177. 1

686340169178. 2

686340169179. 3

686340169180. 4

Question Number : 96 Question Id : 68634042832 Question Type : MCQ Option Shuffling : No Is Question Mandatory : No Calculator : None Response Time : N.A Think Time : N.A Minimum Instruction Time : 0

Correct Marks : 4 Wrong Marks : 1

LIST I (Class of Anti-Hypertensive Drug)		LIST II (Example)	
A.	Loop diuretic	I.	CAPTOPRIL
B.	Calcium Channel Blocker	II.	FRUSEMIDE
C.	ACE Inhibitor	III.	CLONIDINE
D.	Central Sympatholytic	IV.	VERAPAMIL

Choose the correct answer from the options given below:

1. A-II, B-IV, C-I, D-III

2. A-II, B-I, C-III, D-IV

3. A-IV, B-I, C-II, D-III

4. A-IV, B-III, C-II, D-I

Options :

686340169181. 1

686340169182. 2

686340169183. 3

686340169184. 4

Question Number : 96 Question Id : 68634042832 Question Type : MCQ Option Shuffling : No Is Question Mandatory : No Calculator : None Response Time : N.A Think Time : N.A Minimum Instruction Time : 0

Correct Marks : 4 Wrong Marks : 1

सूची I के साथ सूची II का मिलान कीजिए

सूची I (उच्च रक्तचाप के लिए प्रयुक्त औषधी का वर्ग)	सूची II (उदाहरण)
A. लूप डाइयूरिटिक	I. कैटोप्रिल
B. कैल्सियम चैनल अवरोधक	II. फ़ुसेमाइड
C. ACE संदमक	III. व्लोनीडिन
D. केन्द्रीय सिम्पैथोलिटिक	IV. वेरापामिल

नीचे दिए गए विकल्पों में से सही उत्तर का चयन कीजिए :

1. A-II, B-IV, C-I, D-III
2. A-II, B-I, C-III, D-IV
3. A-IV, B-I, C-II, D-III
4. A-IV, B-III, C-II, D-I

Options :

686340169181. 1
686340169182. 2
686340169183. 3
686340169184. 4

Question Number : 97 Question Id : 68634042833 Question Type : MCQ Option Shuffling : No Is Question Mandatory : No Calculator : None Response Time : N.A Think Time : N.A Minimum Instruction Time : 0

Correct Marks : 4 Wrong Marks : 1

Match List I with List II

LIST I (Disorder)	LIST II (Clinical Feature)
A. Osteomalacia	I. Bouchard's Nodes and Heberden's nodes
B. Osteoporosis	II. Osteitis fibrosa cystica
C. Osteoarthritis	III. Looser's zones bones can be seen in the bone
D. Hyperparathyroidism	IV. Thinning of bony trabeculae and generalized rarefaction

Choose the correct answer from the options given below:

1. A-III, B-IV, C-I, D-II
2. A-II, B-IV, C-I, D-III
3. A-II, B-I, C-IV, D-III
4. A-II, B-III, C-I, D-IV

Options :

686340169185. 1
686340169186. 2
686340169187. 3

686340169188. 4

Question Number : 97 Question Id : 68634042833 Question Type : MCQ Option Shuffling : No Is Question Mandatory : No Calculator : None Response Time : N.A Think Time : N.A Minimum Instruction Time : 0 Correct Marks : 4 Wrong Marks : 1

सूची I के साथ सूची II का मिलान कीजिए

सूची I (विकृति)		सूची II (नैदानिक विशेषता)	
A.	अस्थिमृदुता	I.	बूचार्ड नोड एवं हेबर्डन नोड
B.	अस्थिसुषिरता	II.	आस्टिआइटिस फाइब्रोसा सिस्टिका
C.	आस्टियोऑर्थ्रोइटिस	III.	अस्थि में लूजर जोन देखे जा सकते हैं
D.	परावट्ट अतिक्रियता	IV.	अस्थि ट्रेबेक्यूला का कम होना एवं सार्विक विरलन

नीचे दिए गए विकल्पों में से सही उत्तर का चयन कीजिए :

1. A-III, B-IV, C-I, D-II
2. A-II, B-IV, C-I, D-III
3. A-II, B-I, C-IV, D-III
4. A-II, B-III, C-I, D-IV

Options :

686340169185. 1
686340169186. 2
686340169187. 3
686340169188. 4

Question Number : 98 Question Id : 68634042834 Question Type : MCQ Option Shuffling : No Is Question Mandatory : No Calculator : None Response Time : N.A Think Time : N.A Minimum Instruction Time : 0 Correct Marks : 4 Wrong Marks : 1

Match List I with List II

LIST I		LIST II	
Muscle of lower Limb		Nerve Supply	
A.	Peroneus Longus	I.	Superior gluteal nerve
B.	Gluteus Minimus	II.	Femoral nerve
C.	Sartorius	III.	Superficial peroneal nerve
D.	Tibialis Anterior	IV.	Deep peroneal nerve

Choose the correct answer from the options given below:

1. A-III, B-I, C-II, D-IV
2. A-IV, B-I, C-II, D-III
3. A-III, B-IV, C-II, D-I
4. A-IV, B-III, C-II, D-I

Options :

686340169189. 1
686340169190. 2
686340169191. 3
686340169192. 4

**Question Number : 98 Question Id : 68634042834 Question Type : MCQ Option Shuffling : No Is Question Mandatory :
No Calculator : None Response Time : N.A Think Time : N.A Minimum Instruction Time : 0**

Correct Marks : 4 Wrong Marks : 1

सूची I के साथ सूची II का मिलान कीजिए

सूची I (निम्न अग्रग की पेशी)	सूची II (तंत्रिका आपूर्ति)
A. पेरोनियस लांगस	I. सुपीरियर ग्लूटियल नर्व
B. ग्लूटियस मिनिमस	II. फिमोरल नर्व
C. साटोरियस	III. सुपरफिशियल पेरोनियल नर्व
D. टिबिएलिस एंटीरियर	IV. डीप पेरोनियल नर्व

नीचे दिए गए विकल्पों में से सही उत्तर का चयन कीजिए :

1. A-III, B-I, C-II, D-IV
2. A-IV, B-I, C-II, D-III
3. A-III, B-IV, C-II, D-I
4. A-IV, B-III, C-II, D-I

Options :

686340169189. 1
686340169190. 2
686340169191. 3
686340169192. 4

**Question Number : 99 Question Id : 68634042835 Question Type : MCQ Option Shuffling : No Is Question Mandatory :
No Calculator : None Response Time : N.A Think Time : N.A Minimum Instruction Time : 0**

Correct Marks : 4 Wrong Marks : 1

Match List I with List II

LIST I		LIST II	
Type of Joint		Example of joint	
A.	Pivot joint	I.	First chondrosternal joint
B.	Saddle joint	II.	Symphysis pubis
C.	Secondary cartilaginous joint	III.	Carpometacarpal joint of thumb
D.	Primary Cartilaginous joint	IV.	Median Atlantoaxial joint

Choose the correct answer from the options given below:

1. A-IV, B-III, C-I, D-II
2. A-IV, B-III, C-II, D-I
3. A-IV, B-II, C-III, D-I
4. A-III, B-IV, C-II, D-I

Options :

686340169193. 1
686340169194. 2
686340169195. 3
686340169196. 4

Question Number : 99 Question Id : 68634042835 Question Type : MCQ Option Shuffling : No Is Question Mandatory : No Calculator : None Response Time : N.A Think Time : N.A Minimum Instruction Time : 0

Correct Marks : 4 Wrong Marks : 1

सूची I के साथ सूची II का मिलान कीजिए

सूची I (जोड़ का प्रकार)		सूची II (जोड़ के प्रकार का उदाहरण)	
A.	पिवट जोड़	I.	पहला कांड्रोस्टर्नल जोड़
B.	सैडल जोड़	II.	सिम्फाइसिस प्यूबिस
C.	द्वितीयक उपास्थिमय जोड़	III.	अंगूठे का कार्पोमेटाकार्पल जोड़
D.	प्राथमिक उपास्थिमय जोड़	IV.	मीडियन अटलांटोएक्सियल जोड़

नीचे दिए गए विकल्पों में से सही उत्तर का चयन कीजिए :

1. A-IV, B-III, C-I, D-II
2. A-IV, B-III, C-II, D-I
3. A-IV, B-II, C-III, D-I
4. A-III, B-IV, C-II, D-I

Options :

686340169193. 1
686340169194. 2
686340169195. 3
686340169196. 4

Question Number : 100 Question Id : 68634042836 Question Type : MCQ Option Shuffling : No Is Question Mandatory : No Calculator : None Response Time : N.A Think Time : N.A Minimum Instruction Time : 0
Correct Marks : 4 Wrong Marks : 1

Match List I with List II

LIST I		LIST II	
A.	Broca's speech area	I.	Area 4
B.	Primary motor area	II.	Area 44 and 45
C.	Visual Association Area	III.	Area 5 and 7
D.	Somatosensory association Area	IV.	Area 18 and 19

Choose the correct answer from the options given below:

1. A-I, B-III, C-IV, D-II
2. A-II, B-I, C-IV, D-III
3. A-II, B-I, C-III, D-IV
4. A-I, B-II, C-IV, D-III

Options :

686340169197. 1
686340169198. 2
686340169199. 3
686340169200. 4

Question Number : 100 Question Id : 68634042836 Question Type : MCQ Option Shuffling : No Is Question Mandatory : No Calculator : None Response Time : N.A Think Time : N.A Minimum Instruction Time : 0
Correct Marks : 4 Wrong Marks : 1

सूची I के साथ सूची II का मिलान कीजिए

सूची I		सूची II	
A.	ब्रोका वाक् क्षेत्र	I.	क्षेत्र 4
B.	प्राथमिक मोटर क्षेत्र	II.	क्षेत्र 44 और 45
C.	दृश्य साहचर्य क्षेत्र	III.	क्षेत्र 5 और 7
D.	कायसंवेदी साहचर्य क्षेत्र	IV.	क्षेत्र 18 और 19

नीचे दिए गए विकल्पों में से सही उत्तर का चयन कीजिए :

1. A-I, B-III, C-IV, D-II
2. A-II, B-I, C-IV, D-III
3. A-II, B-I, C-III, D-IV
4. A-I, B-II, C-IV, D-III

Options :

686340169197. 1
686340169198. 2

686340169199.3

686340169200.4