

National Testing Agency

Question Paper Name : Physical Education Hin 30th June 2023 Shift 3
Subject Name : Physical Education Hin
Creation Date : 2023-06-30 23:01:27
Duration : 120
Total Marks : 400
Display Marks: Yes

Physical Education

Group Number : 1
Group Id : 686340429
Group Maximum Duration : 0
Group Minimum Duration : 120
Show Attended Group? : No
Edit Attended Group? : No
Break time : 0
Group Marks : 400
Is this Group for Examiner? : No
Examiner permission : Cant View
Show Progress Bar? : No

Part A

Section Id : 686340853
Section Number : 1
Section type : Online
Mandatory or Optional : Mandatory
Number of Questions : 21
Number of Questions to be attempted : 21
Section Marks : 100
Enable Mark as Answered Mark for Review and Clear Response : Yes
Maximum Instruction Time : 0
Sub-Section Number : 1
Sub-Section Id : 6863401418
Question Shuffling Allowed : No
Is Section Default? : null

Question Id : 68634043342 Question Type : COMPREHENSION Sub Question Shuffling Allowed : Yes Group Comprehension Questions : No Question Pattern Type : NonMatrix Calculator : None Response Time : N.A Think Time : N.A Minimum Instruction Time : 0
Question Numbers : (1 to 5)
Question Label : Comprehension

पोथी- पढ़ि-पढ़ि जग मुवा, पंडित भया नं कोय।

ढाई आखर प्रेम के, पढ़ै सो पंडित होय।।

प्रेम न बाड़ी ऊपजै, प्रेम न हाट बिकाय।

राजा परजा जेहि रुचै, सीस देइ ले जाय।।

Sub questions

Question Number : 1 Question Id : 68634043343 Question Type : MCQ Option Shuffling : No Is Question Mandatory : No Calculator : None Response Time : N.A Think Time : N.A Minimum Instruction Time : 0 Correct Marks : 4 Wrong Marks : 1

प्रस्तुत पंक्तियों के कवि तथा काल का सही चयन कीजिए।

1. तुलसीदास, भक्तिकाल
2. कबीरदास, भक्तिकाल
3. कबीरदास, रीतिकाल
4. कबीरदास, आदिकाल

Options :

686340171201. 1
686340171202. 2
686340171203. 3
686340171204. 4

Question Number : 2 Question Id : 68634043344 Question Type : MCQ Option Shuffling : No Is Question Mandatory : No Calculator : None Response Time : N.A Think Time : N.A Minimum Instruction Time : 0 Correct Marks : 4 Wrong Marks : 1

नीचे दो कथन दिए गए हैं: एक **अभिकथन A** के रूप में लिखित है तो दूसरा उसके **कारण R** के रूप में हैं:

अभिकथन A : सारा जग पोथी पढ़-पढ़ कर अमर हो गया है।

कारण R : शास्त्रों का अध्ययन करने से कोई भी मनुष्य विद्वान नहीं बन सकता। वास्तविक विद्वता तो समाज में परस्पर प्रेम स्वं भाईचारे की भावना से आती है।

उपरोक्त कथन के अलोक में, नीचे दिए गए विकल्पों में से सबसे उपयुक्त उत्तर का चयन कीजिए:

1. A और R दोनों सही हैं और R, A की सही व्याख्या है
2. A और R दोनों सही हैं और R, A की सही व्याख्या नहीं है
3. A सही है लेकिन R सही नहीं है
4. A सही नहीं है लेकिन R सही है

Options :

686340171205. 1
686340171206. 2
686340171207. 3
686340171208. 4

Question Number : 3 Question Id : 68634043345 Question Type : MCQ Option Shuffling : No Is Question Mandatory : No Calculator : None Response Time : N.A Think Time : N.A Minimum Instruction Time : 0

Correct Marks : 4 Wrong Marks : 1

नीचे दो कथन दिए गए हैं: एक अभिकथन A के रूप में लिखित है तो दूसरा उसके कारण R के रूप में है;

अभिकथन A : प्रेम न बाड़ी ऊपजै, प्रेम न हाट बिकाय।
राजा परजा जेहि रुचै, सीस देइ ले जाय।।

कारण R : गुरु कुम्हार है और शिष्य घड़े के समान है। गुरु निरंतर अपने शिष्य के गुणों का विकास करता है। जैसे कुम्हार, मिट्टी को आकार देकर घड़े में परिवर्तित करता है वैसे ही गुरु भी शिष्य को ज्ञानवान बनाते हैं।

उपरोक्त कथन के अलोक में, नीचे दिए गए विकल्पों में से सबसे उपयुक्त उत्तर का चयन कीजिए:

1. A और R दोनों सत्य हैं और R, A की सही व्याख्या है
2. A और R दोनों सत्य हैं और R, A की सही व्याख्या नहीं है
3. A सत्य है लेकिन R असत्य है
4. A असत्य है लेकिन R सत्य है

Options :

686340171209. 1
686340171210. 2
686340171211. 3
686340171212. 4

Question Number : 4 Question Id : 68634043346 Question Type : MCQ Option Shuffling : No Is Question Mandatory : No Calculator : None Response Time : N.A Think Time : N.A Minimum Instruction Time : 0

Correct Marks : 4 Wrong Marks : 1

निम्नलिखित कथनों में से सही विकल्प का चयन कीजिए।

- A. पढ़ि-पढ़ि में पुनरावृत्ति प्रकाश अलंकार है।
- B. चौपाई छंद की व्यंजना की गई है।
- C. प्रस्तुत पंक्तियों की भाषा अवधी है।
- D. प्रस्तुत पंक्तियों में निर्गुण ईश्वर पर बल दिया है।
- E. प्रस्तुत पंक्तियों में प्रेम पर बल दिया गया है।

नीचे दिए गए विकल्पों में से सही उत्तर का चयन कीजिए:

- 1. A, B और C
- 2. B और D
- 3. A और E
- 4. A, D और E

Options :

- 686340171213. 1
- 686340171214. 2
- 686340171215. 3
- 686340171216. 4

Question Number : 5 Question Id : 68634043347 Question Type : MCQ Option Shuffling : No Is Question Mandatory : No Calculator : None Response Time : N.A Think Time : N.A Minimum Instruction Time : 0 Correct Marks : 4 Wrong Marks : 1

नीचे दो कथन दिए गए हैं:

कथन I : प्रेम न बाड़ी ऊपजै का अर्थ है कि प्रेम किसी भी खेत में सरलता में पैदा हो सकता है।

कथन II : राजा और प्रजा कोई भी सरलता से प्रेम को प्राप्त कर सकते हैं।

उपरोक्त कथन के अलोक में, नीचे दिए गए विकल्पों में से सबसे उपयुक्त उत्तर का चयन कीजिए:

- 1. कथन I और II दोनों सत्य हैं
- 2. कथन I और II दोनों असत्य हैं
- 3. कथन I सत्य है, लेकिन कथन II असत्य है
- 4. कथन I असत्य है, लेकिन कथन II सत्य है

Options :

- 686340171217. 1
- 686340171218. 2
- 686340171219. 3
- 686340171220. 4

Question Id : 68634043342 Question Type : COMPREHENSION Sub Question Shuffling Allowed : Yes Group Comprehension Questions : No Question Pattern Type : NonMatrix Calculator : None Response Time : N.A Think Time

: N.A Minimum Instruction Time : 0

Question Numbers : (1 to 5)

Question Label : Comprehension

पोथी- पढ़ि-पढ़ि जग मुवा, पंडित भया नं कोय।

ढाई आखर प्रेम के, पढ़ै सो पंडित होय।।

प्रेम न बाड़ी ऊपजै, प्रेम न हाट बिकाय।

राजा परजा जेहि रुचै, सीस देइ ले जाय।।

Sub questions

Question Number : 1 Question Id : 68634043343 Question Type : MCQ Option Shuffling : No Is Question Mandatory :

No Calculator : None Response Time : N.A Think Time : N.A Minimum Instruction Time : 0

Correct Marks : 4 Wrong Marks : 1

प्रस्तुत पंक्तियों के कवि तथा काल का सही चयन कीजिए।

1. तुलसीदास, भक्तिकाल
2. कबीरदास, भक्तिकाल
3. कबीरदास, रीतिकाल
4. कबीरदास, आदिकाल

Options :

686340171201. 1

686340171202. 2

686340171203. 3

686340171204. 4

Question Number : 2 Question Id : 68634043344 Question Type : MCQ Option Shuffling : No Is Question Mandatory :

No Calculator : None Response Time : N.A Think Time : N.A Minimum Instruction Time : 0

Correct Marks : 4 Wrong Marks : 1

नीचे दो कथन दिए गए हैं: एक **अभिकथन A** के रूप में लिखित है तो दूसरा उसके **कारण R** के रूप में है:

अभिकथन A : सारा जग पोथी पढ़-पढ़ कर अमर हो गया है।

कारण R : शास्त्रों का अध्ययन करने से कोई भी मनुष्य विद्वान नहीं बन सकता। वास्तविक विद्वता तो समाज में परस्पर प्रेम स्वं भाईचारे की भावना से आती है।

उपरोक्त कथन के अलोक में, नीचे दिए गए विकल्पों में से सबसे उपयुक्त उत्तर का चयन कीजिए:

1. A और R दोनों सही हैं और R, A की सही व्याख्या है
2. A और R दोनों सही हैं और R, A की सही व्याख्या नहीं है
3. A सही है लेकिन R सही नहीं है
4. A सही नहीं है लेकिन R सही है

Options :

686340171205. 1
686340171206. 2
686340171207. 3
686340171208. 4

Question Number : 3 Question Id : 68634043345 Question Type : MCQ Option Shuffling : No Is Question Mandatory : No Calculator : None Response Time : N.A Think Time : N.A Minimum Instruction Time : 0

Correct Marks : 4 Wrong Marks : 1

नीचे दो कथन दिए गए हैं: एक **अभिकथन A** के रूप में लिखित है तो दूसरा उसके **कारण R** के रूप में है:

अभिकथन A : प्रेम न बाड़ी ऊपजै, प्रेम न हाट बिकाय।
राजा परजा जेहि रुचै, सीस देइ ले जाय।।

कारण R : गुरु कुम्हार है और शिष्य घड़े के समान है। गुरु निरंतर अपने शिष्य के गुणों का विकास करता है। जैसे कुम्हार, मिट्टी को आकार देकर घड़े में परिवर्तित करता है वैसे ही गुरु भी शिष्य को ज्ञानवान बनाते हैं।

उपरोक्त कथन के अलोक में, नीचे दिए गए विकल्पों में से सबसे उपयुक्त उत्तर का चयन कीजिए:

1. A और R दोनों सत्य हैं और R, A की सही व्याख्या है
2. A और R दोनों सत्य हैं और R, A की सही व्याख्या नहीं है
3. A सत्य है लेकिन R असत्य है
4. A असत्य है लेकिन R सत्य है

Options :

686340171209. 1
686340171210. 2
686340171211. 3
686340171212. 4

Question Number : 4 Question Id : 68634043346 Question Type : MCQ Option Shuffling : No Is Question Mandatory : No Calculator : None Response Time : N.A Think Time : N.A Minimum Instruction Time : 0

Correct Marks : 4 Wrong Marks : 1

निम्नलिखित कथनों में से सही विकल्प का चयन कीजिए।

- A. पढ़ि-पढ़ि में पुनरावृत्ति प्रकाश अलंकार है।
- B. चौपाई छंद की व्यंजना की गई है।
- C. प्रस्तुत पंक्तियों की भाषा अवधी है।
- D. प्रस्तुत पंक्तियों में निर्गुण ईश्वर पर बल दिया है।
- E. प्रस्तुत पंक्तियों में प्रेम पर बल दिया गया है।

नीचे दिए गए विकल्पों में से सही उत्तर का चयन कीजिए:

- 1. A, B और C
- 2. B और D
- 3. A और E
- 4. A, D और E

Options :

- 686340171213. 1
- 686340171214. 2
- 686340171215. 3
- 686340171216. 4

Question Number : 5 Question Id : 68634043347 Question Type : MCQ Option Shuffling : No Is Question Mandatory : No Calculator : None Response Time : N.A Think Time : N.A Minimum Instruction Time : 0

Correct Marks : 4 Wrong Marks : 1

नीचे दो कथन दिए गए हैं:

कथन I : प्रेम न बाड़ी ऊपजै का अर्थ है कि प्रेम किसी भी खेत में सरलता में पैदा हो सकता है।

कथन II : राजा और प्रजा कोई भी सरलता से प्रेम को प्राप्त कर सकते हैं।

उपरोक्त कथन के अलोक में, नीचे दिए गए विकल्पों में से सबसे उपयुक्त उत्तर का चयन कीजिए:

- 1. कथन I और II दोनों सत्य हैं
- 2. कथन I और II दोनों असत्य हैं
- 3. कथन I सत्य है, लेकिन कथन II असत्य है
- 4. कथन I असत्य है, लेकिन कथन II सत्य है

Options :

- 686340171217. 1
- 686340171218. 2
- 686340171219. 3
- 686340171220. 4

Sub-Section Number :

2

Sub-Section Id :

6863401419

Question Shuffling Allowed :

Yes

Is Section Default? :

null

Question Number : 6 Question Id : 68634043348 Question Type : MCQ Option Shuffling : No Is Question Mandatory : No Calculator : None Response Time : N.A Think Time : N.A Minimum Instruction Time : 0

Correct Marks : 4 Wrong Marks : 1

निम्नलिखित में से महाप्राण व्यंजन चिन्हित कीजिए:

1. क

2. ग

3. थ

4. ट

Options :

686340171221. 1

686340171222. 2

686340171223. 3

686340171224. 4

Question Number : 6 Question Id : 68634043348 Question Type : MCQ Option Shuffling : No Is Question Mandatory : No Calculator : None Response Time : N.A Think Time : N.A Minimum Instruction Time : 0

Correct Marks : 4 Wrong Marks : 1

निम्नलिखित में से महाप्राण व्यंजन चिन्हित कीजिए:

1. क

2. ग

3. थ

4. ट

Options :

686340171221. 1

686340171222. 2

686340171223. 3

686340171224. 4

Question Number : 7 Question Id : 68634043349 Question Type : MCQ Option Shuffling : No Is Question Mandatory : No Calculator : None Response Time : N.A Think Time : N.A Minimum Instruction Time : 0

Correct Marks : 4 Wrong Marks : 1

जो अव्यय संज्ञा अथवा सर्वनाम के साथ प्रयुक्त होते हैं उन्हें निम्नलिखित में से क्या कहते हैं।

1. संबंध बोधक
2. विशेषण
3. क्रिया विशेषण
4. संबोधन बोधक

Options :

686340171225. 1
686340171226. 2
686340171227. 3
686340171228. 4

Question Number : 7 Question Id : 68634043349 Question Type : MCQ Option Shuffling : No Is Question Mandatory : No Calculator : None Response Time : N.A Think Time : N.A Minimum Instruction Time : 0

Correct Marks : 4 Wrong Marks : 1

जो अव्यय संज्ञा अथवा सर्वनाम के साथ प्रयुक्त होते हैं उन्हें निम्नलिखित में से क्या कहते हैं।

1. संबंध बोधक
2. विशेषण
3. क्रिया विशेषण
4. संबोधन बोधक

Options :

686340171225. 1
686340171226. 2
686340171227. 3
686340171228. 4

Question Number : 8 Question Id : 68634043350 Question Type : MCQ Option Shuffling : No Is Question Mandatory : No Calculator : None Response Time : N.A Think Time : N.A Minimum Instruction Time : 0

Correct Marks : 4 Wrong Marks : 1

निम्नलिखित में से पुल्लिंग शब्द कौन सा है?

1. सरसों
2. सारस
3. मूँग
4. मकई

Options :

686340171229. 1
686340171230. 2
686340171231. 3
686340171232. 4

**Question Number : 8 Question Id : 68634043350 Question Type : MCQ Option Shuffling : No Is Question Mandatory :
No Calculator : None Response Time : N.A Think Time : N.A Minimum Instruction Time : 0
Correct Marks : 4 Wrong Marks : 1**

निम्नलिखित में से पुल्लिंग शब्द कौन सा है?

1. सरसों
2. सारस
3. मूँग
4. मकई

Options :

686340171229. 1
686340171230. 2
686340171231. 3
686340171232. 4

**Question Number : 9 Question Id : 68634043351 Question Type : MCQ Option Shuffling : No Is Question Mandatory :
No Calculator : None Response Time : N.A Think Time : N.A Minimum Instruction Time : 0
Correct Marks : 4 Wrong Marks : 1**

वाक्य में जिसके विषय में कहा जाए उसे क्या कहते हैं?

1. क्रिया
2. विधेय
3. सर्वनाम
4. उद्देश्य

Options :

686340171233. 1
686340171234. 2
686340171235. 3
686340171236. 4

**Question Number : 9 Question Id : 68634043351 Question Type : MCQ Option Shuffling : No Is Question Mandatory :
No Calculator : None Response Time : N.A Think Time : N.A Minimum Instruction Time : 0
Correct Marks : 4 Wrong Marks : 1**

वाक्य में जिसके विषय में कहा जाए उसे क्या कहते हैं?

1. क्रिया
2. विधेय
3. सर्वनाम
4. उद्देश्य

Options :

686340171233. 1
686340171234. 2
686340171235. 3
686340171236. 4

Question Number : 10 Question Id : 68634043352 Question Type : MCQ Option Shuffling : No Is Question Mandatory : No Calculator : None Response Time : N.A Think Time : N.A Minimum Instruction Time : 0

Correct Marks : 4 Wrong Marks : 1

निम्नलिखित में से शुद्ध वाक्य चिन्हित कीजिए:

1. यह मिठाई की ताज़ी दूकान है।
2. सुबह चिड़िया चहचहा रही थी।
3. यह तो आँख से देखा घटना है।
4. क्रोध से विनाश होती है।

Options :

686340171237. 1
686340171238. 2
686340171239. 3
686340171240. 4

Question Number : 10 Question Id : 68634043352 Question Type : MCQ Option Shuffling : No Is Question Mandatory : No Calculator : None Response Time : N.A Think Time : N.A Minimum Instruction Time : 0

Correct Marks : 4 Wrong Marks : 1

निम्नलिखित में से शुद्ध वाक्य चिन्हित कीजिए:

1. यह मिठाई की ताज़ी दूकान है।
2. सुबह चिड़िया चहचहा रही थी।
3. यह तो आँख से देखा घटना है।
4. क्रोध से विनाश होती है।

Options :

686340171237. 1
686340171238. 2
686340171239. 3
686340171240. 4

**Question Number : 11 Question Id : 68634043353 Question Type : MCQ Option Shuffling : No Is Question Mandatory :
No Calculator : None Response Time : N.A Think Time : N.A Minimum Instruction Time : 0
Correct Marks : 4 Wrong Marks : 1**

तीन के पहले 5 गुणजों और पांच के पहले 5 गुणजों का औसत ज्ञात कीजिए।

1. 20
2. 16
3. 12
4. 22

Options :

686340171241. 1
686340171242. 2
686340171243. 3
686340171244. 4

**Question Number : 11 Question Id : 68634043353 Question Type : MCQ Option Shuffling : No Is Question Mandatory :
No Calculator : None Response Time : N.A Think Time : N.A Minimum Instruction Time : 0
Correct Marks : 4 Wrong Marks : 1**

तीन के पहले 5 गुणजों और पांच के पहले 5 गुणजों का औसत ज्ञात कीजिए।

1. 20
2. 16
3. 12
4. 22

Options :

686340171241. 1
686340171242. 2
686340171243. 3
686340171244. 4

**Question Number : 12 Question Id : 68634043354 Question Type : MCQ Option Shuffling : No Is Question Mandatory :
No Calculator : None Response Time : N.A Think Time : N.A Minimum Instruction Time : 0
Correct Marks : 4 Wrong Marks : 1**

सरल कीजिए

$$0.9 - [2.3 - 3.2 - (7.3 - 5.4 - 3.7)]$$

1. 0.18

2. 0

3. 1.8

4. -2.6

Options :

686340171245. 1

686340171246. 2

686340171247. 3

686340171248. 4

Question Number : 12 Question Id : 68634043354 Question Type : MCQ Option Shuffling : No Is Question Mandatory : No Calculator : None Response Time : N.A Think Time : N.A Minimum Instruction Time : 0 Correct Marks : 4 Wrong Marks : 1

सरल कीजिए

$$0.9 - [2.3 - 3.2 - (7.3 - 5.4 - 3.7)]$$

1. 0.18

2. 0

3. 1.8

4. -2.6

Options :

686340171245. 1

686340171246. 2

686340171247. 3

686340171248. 4

Question Number : 13 Question Id : 68634043355 Question Type : MCQ Option Shuffling : No Is Question Mandatory : No Calculator : None Response Time : N.A Think Time : N.A Minimum Instruction Time : 0 Correct Marks : 4 Wrong Marks : 1

किसी वर्ग का परिमाण एक आयत के परिमाण के समान है. यदि आयत की भुजाओं में 17:11 का अनुपात है, तो वर्ग और आयत के क्षेत्रफलों में अनुपात ज्ञात कीजिए।

1. 17:11
2. 10:9
3. 114:113
4. 196:187

Options :

686340171249. 1
686340171250. 2
686340171251. 3
686340171252. 4

Question Number : 13 Question Id : 68634043355 Question Type : MCQ Option Shuffling : No Is Question Mandatory : No Calculator : None Response Time : N.A Think Time : N.A Minimum Instruction Time : 0

Correct Marks : 4 Wrong Marks : 1

किसी वर्ग का परिमाण एक आयत के परिमाण के समान है. यदि आयत की भुजाओं में 17:11 का अनुपात है, तो वर्ग और आयत के क्षेत्रफलों में अनुपात ज्ञात कीजिए।

1. 17:11
2. 10:9
3. 114:113
4. 196:187

Options :

686340171249. 1
686340171250. 2
686340171251. 3
686340171252. 4

Question Number : 14 Question Id : 68634043356 Question Type : MCQ Option Shuffling : No Is Question Mandatory : No Calculator : None Response Time : N.A Think Time : N.A Minimum Instruction Time : 0

Correct Marks : 4 Wrong Marks : 1

16% वार्षिक की दर से उधार दी गई किसी राशि पर एक वर्ष के लिए चक्रवृद्धि ब्याज, जब ब्याज प्रति छमाही संयोजित हो रहा है तथा एक वर्ष के लिए साधारण ब्याज में अंतर ₹ 56 है। यह राशि है:

1. ₹ 5,780
2. ₹ 7,805
3. ₹ 7,850
4. ₹ 8,750

Options :

686340171253. 1
686340171254. 2
686340171255. 3
686340171256. 4

Question Number : 14 Question Id : 68634043356 Question Type : MCQ Option Shuffling : No Is Question Mandatory : No Calculator : None Response Time : N.A Think Time : N.A Minimum Instruction Time : 0

Correct Marks : 4 Wrong Marks : 1

16% वार्षिक की दर से उधार दी गई किसी राशि पर एक वर्ष के लिए चक्रवृद्धि ब्याज, जब ब्याज प्रति छमाही संयोजित हो रहा है तथा एक वर्ष के लिए साधारण ब्याज में अंतर ₹ 56 है। यह राशि है:

1. ₹ 5,780
2. ₹ 7,805
3. ₹ 7,850
4. ₹ 8,750

Options :

686340171253. 1
686340171254. 2
686340171255. 3
686340171256. 4

Question Number : 15 Question Id : 68634043357 Question Type : MCQ Option Shuffling : No Is Question Mandatory : No Calculator : None Response Time : N.A Think Time : N.A Minimum Instruction Time : 0

Correct Marks : 4 Wrong Marks : 1

तीन लड़कों की औसत आयु 22 वर्ष है। इनमें से सबसे छोटे की आयु का 8 गुना, अन्य दोनों की आयु के योग का 3 गुना है। उनमें से सबसे बड़े की आयु ज्ञात कीजिए यदि वह सबसे छोटे से 8 वर्ष बड़ा है।

1. 24 वर्ष
2. 25 वर्ष
3. 26 वर्ष
4. 28 वर्ष

Options :

686340171257. 1
686340171258. 2
686340171259. 3
686340171260. 4

Question Number : 15 Question Id : 68634043357 Question Type : MCQ Option Shuffling : No Is Question Mandatory : No Calculator : None Response Time : N.A Think Time : N.A Minimum Instruction Time : 0 Correct Marks : 4 Wrong Marks : 1

तीन लड़कों की औसत आयु 22 वर्ष है। इनमें से सबसे छोटे की आयु का 8 गुना, अन्य दोनों की आयु के योग का 3 गुना है। उनमें से सबसे बड़े की आयु ज्ञात कीजिए यदि वह सबसे छोटे से 8 वर्ष बड़ा है।

1. 24 वर्ष
2. 25 वर्ष
3. 26 वर्ष
4. 28 वर्ष

Options :

686340171257. 1
686340171258. 2
686340171259. 3
686340171260. 4

Question Number : 16 Question Id : 68634043358 Question Type : MCQ Option Shuffling : No Is Question Mandatory : No Calculator : None Response Time : N.A Think Time : N.A Minimum Instruction Time : 0 Correct Marks : 4 Wrong Marks : 1

नीचे दिए गए कथनों का अनुसरण करते हुए दो निष्कर्ष संख्या I और II दी गई है।

कथन : हमारी प्रतिभूतियों के निवेश में बाजार का जोखिम होता है, निवेश करने से पहले अपने निवेश सलाहकार या एजेंट से परामर्श करें।

निष्कर्ष I : किसी को प्रतिभूतियों में निवेश नहीं करना चाहिए।

II : निवेश सलाहकार बाजार जोखिम गणना निश्चित रूप से करते है।

दिए गए कथन में से कौन से निष्कर्ष का अनुसरण कर रहा है पहचान कीजिए:

1. केवल II अनुसरण करता है।
2. केवल I अनुसरण करता है।
3. दोनों I और II अनुसरण करता है।
4. या तो I या II अनुसरण करता है।

Options :

686340171261. 1
686340171262. 2
686340171263. 3
686340171264. 4

Question Number : 16 Question Id : 68634043358 Question Type : MCQ Option Shuffling : No Is Question Mandatory : No Calculator : None Response Time : N.A Think Time : N.A Minimum Instruction Time : 0

Correct Marks : 4 Wrong Marks : 1

नीचे दिए गए कथनों का अनुसरण करते हुए दो निष्कर्ष संख्या I और II दी गई है।

कथन : हमारी प्रतिभूतियों के निवेश में बाजार का जोखिम होता है, निवेश करने से पहले अपने निवेश सलाहकार या एजेंट से परामर्श करें।

निष्कर्ष I : किसी को प्रतिभूतियों में निवेश नहीं करना चाहिए।

II : निवेश सलाहकार बाजार जोखिम गणना निश्चित रूप से करते है।

दिए गए कथन में से कौन से निष्कर्ष का अनुसरण कर रहा है पहचान कीजिए:

1. केवल II अनुसरण करता है।
2. केवल I अनुसरण करता है।
3. दोनों I और II अनुसरण करता है।
4. या तो I या II अनुसरण करता है।

Options :

686340171261. 1
686340171262. 2
686340171263. 3
686340171264. 4

Question Number : 17 Question Id : 68634043359 Question Type : MCQ Option Shuffling : No Is Question Mandatory : No Calculator : None Response Time : N.A Think Time : N.A Minimum Instruction Time : 0
Correct Marks : 4 Wrong Marks : 1

दिए गए आकृति (X) के जल- प्रतिबिंब का सही पता लगाइये


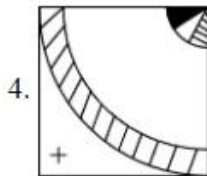
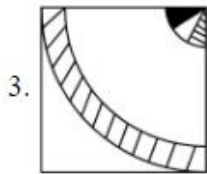
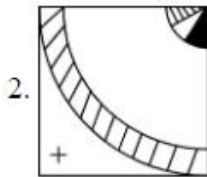
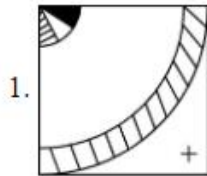


Fig (x)



Options :

- 686340171265. 1
- 686340171266. 2
- 686340171267. 3
- 686340171268. 4

Question Number : 17 Question Id : 68634043359 Question Type : MCQ Option Shuffling : No Is Question Mandatory : No Calculator : None Response Time : N.A Think Time : N.A Minimum Instruction Time : 0
Correct Marks : 4 Wrong Marks : 1

दिए गए आकृति (x) के जल- प्रतिबिंब का सही पता लगाइये

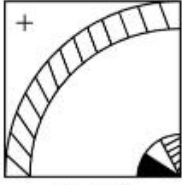
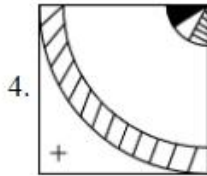
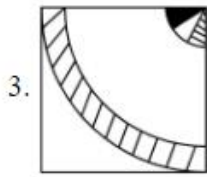
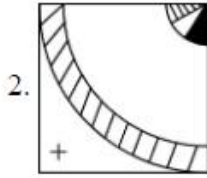
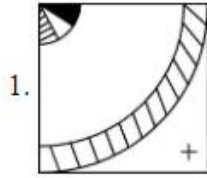


Fig (x)



Options :

686340171265. 1

686340171266. 2

686340171267. 3

686340171268. 4

Question Number : 18 Question Id : 68634043360 Question Type : MCQ Option Shuffling : No Is Question Mandatory : No Calculator : None Response Time : N.A Think Time : N.A Minimum Instruction Time : 0

Correct Marks : 4 Wrong Marks : 1

एक निश्चित कूट तंत्र में, यदि $2 = 5$, $4 = 18$, $6 = 39$, तब $10 = ?$

1. 105

2. 104

3. 89

4. 54

Options :

686340171269. 1
686340171270. 2
686340171271. 3
686340171272. 4

**Question Number : 18 Question Id : 68634043360 Question Type : MCQ Option Shuffling : No Is Question Mandatory :
No Calculator : None Response Time : N.A Think Time : N.A Minimum Instruction Time : 0
Correct Marks : 4 Wrong Marks : 1**

एक निश्चित कूट तंत्र में, यदि $2 = 5$, $4 = 18$, $6 = 39$, तब $10 = ?$

1. 105
2. 104
3. 89
4. 54

Options :

686340171269. 1
686340171270. 2
686340171271. 3
686340171272. 4

**Question Number : 19 Question Id : 68634043361 Question Type : MCQ Option Shuffling : No Is Question Mandatory :
No Calculator : None Response Time : N.A Think Time : N.A Minimum Instruction Time : 0
Correct Marks : 4 Wrong Marks : 1**

दिए गए युग्म की दर्पण प्रतिबिंब का पता लगाइये।

"AN54WVG3"

1. 3DMW42NA
2. 3DWM45NV
3. 3GWM42NV
4. 3DWM42NV

Options :

686340171273. 1
686340171274. 2
686340171275. 3
686340171276. 4

**Question Number : 19 Question Id : 68634043361 Question Type : MCQ Option Shuffling : No Is Question Mandatory :
No Calculator : None Response Time : N.A Think Time : N.A Minimum Instruction Time : 0
Correct Marks : 4 Wrong Marks : 1**

दिए गए युग्म की दर्पण प्रतिबिंब का पता लगाइये।

"AN54WMG3"

1. 3DMW42IA
2. 3DWM42NV
3. 3GWM42IV
4. 3DWM42IV

Options :

686340171273. 1
686340171274. 2
686340171275. 3
686340171276. 4

Question Number : 20 Question Id : 68634043362 Question Type : MCQ Option Shuffling : No Is Question Mandatory : No Calculator : None Response Time : N.A Think Time : N.A Minimum Instruction Time : 0 Correct Marks : 4 Wrong Marks : 1

यदि आपका जन्म 6 नवंबर 1983 को हुआ था जो एक रविवार था, तो 1984 में आपका जन्मदिन सप्ताह के किस दिन पड़ेगा?

1. सोमवार
2. बुधवार
3. मंगलवार
4. शुक्रवार

Options :

686340171277. 1
686340171278. 2
686340171279. 3
686340171280. 4

Question Number : 20 Question Id : 68634043362 Question Type : MCQ Option Shuffling : No Is Question Mandatory : No Calculator : None Response Time : N.A Think Time : N.A Minimum Instruction Time : 0 Correct Marks : 4 Wrong Marks : 1

यदि आपका जन्म 6 नवंबर 1983 को हुआ था जो एक रविवार था, तो 1984 में आपका जन्मदिन सप्ताह के किस दिन पड़ेगा?

1. सोमवार
2. बुधवार
3. मंगलवार
4. शुक्रवार

Options :

686340171277. 1
686340171278. 2
686340171279. 3
686340171280. 4

Question Number : 21 Question Id : 68634043363 Question Type : MCQ Option Shuffling : No Is Question Mandatory : No Calculator : None Response Time : N.A Think Time : N.A Minimum Instruction Time : 0

Correct Marks : 4 Wrong Marks : 1

पृथ्वी के अपने धुरी के परितः परिभ्रमण की अवधि के समान कक्षीय अवधि वाले उपग्रह को _____ कहा जाता है।

1. ध्रुवीय उपग्रह
2. स्थैतिक उपग्रह
3. भू- स्थैतिक उपग्रह
4. इनसेट (INSAT)

Options :

686340171281. 1
686340171282. 2
686340171283. 3
686340171284. 4

Question Number : 21 Question Id : 68634043363 Question Type : MCQ Option Shuffling : No Is Question Mandatory : No Calculator : None Response Time : N.A Think Time : N.A Minimum Instruction Time : 0

Correct Marks : 4 Wrong Marks : 1

पृथ्वी के अपने धुरी के परितः परिभ्रमण की अवधि के समान कक्षीय अवधि वाले उपग्रह को _____ कहा जाता है।

1. ध्रुवीय उपग्रह
2. स्थैतिक उपग्रह
3. भू- स्थैतिक उपग्रह
4. इनसेट (INSAT)

Options :

686340171281. 1
686340171282. 2
686340171283. 3
686340171284. 4

Question Number : 22 Question Id : 68634043364 Question Type : MCQ Option Shuffling : No Is Question Mandatory : No Calculator : None Response Time : N.A Think Time : N.A Minimum Instruction Time : 0

Correct Marks : 4 Wrong Marks : 1

सूची I का सूची II से मिलान कीजिए

LIST I एल्युमीनियम कंपनी		LIST II स्थान	
A.	बाल्को	I.	हीराकुंड
B.	हिंडालको	II.	कोरबा
C.	भारतीय एल्युमीनियम कंपनी	III.	कोरापुट
D.	नाल्को	IV.	रेनुकूट

निम्नलिखित विकल्पों में से सही उत्तर का चयन कीजिए :

1. A-III, B-I, C-IV, D-II
2. A-II, B-IV, C-I, D-III
3. A-III, B-IV, C-I, D-II
4. A-II, B-I, C-IV, D-III

Options :

686340171285. 1
686340171286. 2
686340171287. 3
686340171288. 4

Question Number : 22 Question Id : 68634043364 Question Type : MCQ Option Shuffling : No Is Question Mandatory : No Calculator : None Response Time : N.A Think Time : N.A Minimum Instruction Time : 0

Correct Marks : 4 Wrong Marks : 1

सूची I का सूची II से मिलान कीजिए

LIST I एल्युमीनियम कंपनी		LIST II स्थान	
A.	बाल्को	I.	हीराकुंड
B.	हिंडालको	II.	कोरबा
C.	भारतीय एल्युमीनियम कंपनी	III.	कोरापुट
D.	नाल्को	IV.	रेनुकूट

निम्नलिखित विकल्पों में से सही उत्तर का चयन कीजिए :

1. A-III, B-I, C-IV, D-II
2. A-II, B-IV, C-I, D-III
3. A-III, B-IV, C-I, D-II
4. A-II, B-I, C-IV, D-III

Options :

686340171285. 1
686340171286. 2
686340171287. 3
686340171288. 4

Question Number : 23 Question Id : 68634043365 Question Type : MCQ Option Shuffling : No Is Question Mandatory : No Calculator : None Response Time : N.A Think Time : N.A Minimum Instruction Time : 0 Correct Marks : 4 Wrong Marks : 1

स्पीकर (अध्यक्ष) संसद के एक सदस्य को बोलने से रोकने और अन्य दूसरे सदस्य को बोलने देने के लिए कह सकता है। यह घटना किस रूप में जानी जाती है।

1. शिष्टाचार
2. पक्ष परिवर्तन
3. पूछ-ताछ
4. पटल पर समर्पण

Options :

686340171289. 1
686340171290. 2
686340171291. 3
686340171292. 4

Question Number : 23 Question Id : 68634043365 Question Type : MCQ Option Shuffling : No Is Question Mandatory : No Calculator : None Response Time : N.A Think Time : N.A Minimum Instruction Time : 0 Correct Marks : 4 Wrong Marks : 1

स्पीकर (अध्यक्ष) संसद के एक सदस्य को बोलने से रोकने और अन्य दूसरे सदस्य को बोलने देने के लिए कह सकता है। यह घटना किस रूप में जानी जाती है।

1. शिष्टाचार
2. पक्ष परिवर्तन
3. पूछ-ताछ
4. पटल पर समर्पण

Options :

686340171289. 1
686340171290. 2
686340171291. 3
686340171292. 4

Question Number : 24 Question Id : 68634043366 Question Type : MCQ Option Shuffling : No Is Question Mandatory : No Calculator : None Response Time : N.A Think Time : N.A Minimum Instruction Time : 0 Correct Marks : 4 Wrong Marks : 1

सूची I का सूची II से मिलान कीजिए

सूची I धार्मिक संस्थान		सूची II संस्थापक	
A.	आर्य समाज	I.	गोपाल कृष्ण गोखले
B.	रामकृष्ण मिशन	II.	एन. एम. जोशी
C.	सर्वेंट ऑफ इंडियन सोसाइटी	III.	दयानंद सरस्वती
D.	सोशल सर्विस लीग	IV.	स्वामी विवेकानंद

निम्नलिखित विकल्पों में से सही उत्तर का चयन कीजिए :

1. A-III, B-IV, C-II, D-I
2. A-III, B-IV, C-I, D-II
3. A-IV, B-III, C-I, D-II
4. A-II, B-IV, C-I, D-III

Options :

686340171293. 1
686340171294. 2
686340171295. 3
686340171296. 4

Question Number : 24 Question Id : 68634043366 Question Type : MCQ Option Shuffling : No Is Question Mandatory : No Calculator : None Response Time : N.A Think Time : N.A Minimum Instruction Time : 0 Correct Marks : 4 Wrong Marks : 1

सूची I का सूची II से मिलान कीजिए

सूची I धार्मिक संस्थान		सूची II संस्थापक	
A.	आर्य समाज	I.	गोपाल कृष्ण गोखले
B.	रामकृष्ण मिशन	II.	एन. एम. जोशी
C.	सर्वेंट ऑफ इंडियन सोसाइटी	III.	दयानंद सरस्वती
D.	सोशल सर्विस लीग	IV.	स्वामी विवेकानंद

निम्नलिखित विकल्पों में से सही उत्तर का चयन कीजिए :

1. A-III, B-IV, C-II, D-I
2. A-III, B-IV, C-I, D-II
3. A-IV, B-III, C-I, D-II
4. A-II, B-IV, C-I, D-III

Options :

686340171293. 1
686340171294. 2
686340171295. 3
686340171296. 4

Question Number : 25 Question Id : 68634043367 Question Type : MCQ Option Shuffling : No Is Question Mandatory : No Calculator : None Response Time : N.A Think Time : N.A Minimum Instruction Time : 0

Correct Marks : 4 Wrong Marks : 1

भूकंप तरंग उत्पत्ति का केन्द्र किस रूप में जाना जाता है

1. भूकंप ज़ोन
2. मूल (फोकस)
3. प्रकाशमंडल
4. अधिकेन्द्र

Options :

686340171297. 1
686340171298. 2
686340171299. 3
686340171300. 4

Question Number : 25 Question Id : 68634043367 Question Type : MCQ Option Shuffling : No Is Question Mandatory : No Calculator : None Response Time : N.A Think Time : N.A Minimum Instruction Time : 0

Correct Marks : 4 Wrong Marks : 1

भूकंप तरंग उत्पत्ति का केन्द्र किस रूप में जाना जाता है

1. भूकंप ज़ोन
2. मूल (फोकस)
3. प्रकाशमंडल
4. अधिकेन्द्र

Options :

686340171297. 1
686340171298. 2
686340171299. 3
686340171300. 4

Part B: Physical Education

Section Id :	686340854
Section Number :	2
Section type :	Online
Mandatory or Optional :	Mandatory
Number of Questions :	75
Number of Questions to be attempted :	75
Section Marks :	300
Enable Mark as Answered Mark for Review and Clear Response :	Yes
Maximum Instruction Time :	0
Sub-Section Number :	1
Sub-Section Id :	6863401420
Question Shuffling Allowed :	Yes
Is Section Default? :	null

Question Number : 26 Question Id : 68634043368 Question Type : MCQ Option Shuffling : No Is Question Mandatory : No Calculator : None Response Time : N.A Think Time : N.A Minimum Instruction Time : 0 Correct Marks : 4 Wrong Marks : 1

In which period Suryanamaskar was performed more as a religious duty than today, a more physical exercise or training?

1. Vedic Period
2. Early Hindu period
3. Later Hindu period
4. Medieval period

Options :

686340171301. 1
686340171302. 2
686340171303. 3

686340171304. 4

Question Number : 26 Question Id : 68634043368 Question Type : MCQ Option Shuffling : No Is Question Mandatory : No Calculator : None Response Time : N.A Think Time : N.A Minimum Instruction Time : 0 Correct Marks : 4 Wrong Marks : 1

किस काल में सूर्यनमस्कार का प्रदर्शन केवल शारारिक गतिविधि या प्रशिक्षण से अधिक धार्मिक कर्तव्य के रूप में किया जाता था?

1. वैदिक काल
2. हिन्दू काल से पहले
3. हिन्दू काल के बाद
4. मध्यकाल

Options :

- 686340171301. 1
- 686340171302. 2
- 686340171303. 3
- 686340171304. 4

Question Number : 27 Question Id : 68634043369 Question Type : MCQ Option Shuffling : No Is Question Mandatory : No Calculator : None Response Time : N.A Think Time : N.A Minimum Instruction Time : 0 Correct Marks : 4 Wrong Marks : 1

The winner of the first ancient Olympic was:

1. Koroebus Zialo
2. Coroebus fabelo
3. Koroibos Elis
4. Coroebus Anthony

Options :

- 686340171305. 1
- 686340171306. 2
- 686340171307. 3
- 686340171308. 4

Question Number : 27 Question Id : 68634043369 Question Type : MCQ Option Shuffling : No Is Question Mandatory : No Calculator : None Response Time : N.A Think Time : N.A Minimum Instruction Time : 0 Correct Marks : 4 Wrong Marks : 1

प्रथम प्राचीन ओलंपिक का विजेता _____ था।

1. कोरोईबस ज़ियालो
2. कोरोईबस फैबलो
3. कोरोईबस एलिस
4. कोरोईबस एन्थोनी

Options :

686340171305. 1
686340171306. 2
686340171307. 3
686340171308. 4

Question Number : 28 Question Id : 68634043370 Question Type : MCQ Option Shuffling : No Is Question Mandatory : No Calculator : None Response Time : N.A Think Time : N.A Minimum Instruction Time : 0 Correct Marks : 4 Wrong Marks : 1

Which of the following philosophy emphasizes on 'problem solving'?

1. Realism
2. Idealism
3. Pragmatism
4. Naturalism

Options :

686340171309. 1
686340171310. 2
686340171311. 3
686340171312. 4

Question Number : 28 Question Id : 68634043370 Question Type : MCQ Option Shuffling : No Is Question Mandatory : No Calculator : None Response Time : N.A Think Time : N.A Minimum Instruction Time : 0 Correct Marks : 4 Wrong Marks : 1

निम्न में से कौन सा दर्शन-शास्त्र 'समस्या समाधान' पर बल देता है?

1. यथार्थवाद
2. आदर्शवाद
3. व्यवहारवाद
4. प्रकृतिवाद

Options :

686340171309. 1

686340171310. 2

686340171311. 3

686340171312. 4

Question Number : 29 Question Id : 68634043371 Question Type : MCQ Option Shuffling : No Is Question Mandatory : No Calculator : None Response Time : N.A Think Time : N.A Minimum Instruction Time : 0

Correct Marks : 4 Wrong Marks : 1

Who is known as the 'Father of Idealism' in Philosophy?

1. Parker Browne
2. Plato
3. Aristotle
4. Edward Thorndike

Options :

686340171313. 1

686340171314. 2

686340171315. 3

686340171316. 4

Question Number : 29 Question Id : 68634043371 Question Type : MCQ Option Shuffling : No Is Question Mandatory : No Calculator : None Response Time : N.A Think Time : N.A Minimum Instruction Time : 0

Correct Marks : 4 Wrong Marks : 1

दर्शनशास्त्र में "आदर्शवाद के जनक" के नाम से किसको जाना जाता है?

1. पारकर ब्राउने
2. प्लेटो
3. अरस्तू
4. एडवर्ड थॉर्नडाइक

Options :

686340171313. 1

686340171314. 2

686340171315. 3

686340171316. 4

Question Number : 30 Question Id : 68634043372 Question Type : MCQ Option Shuffling : No Is Question Mandatory : No Calculator : None Response Time : N.A Think Time : N.A Minimum Instruction Time : 0

Correct Marks : 4 Wrong Marks : 1

Which of the following objective of physical education according to educationists carries too much of idealism?

1. Ethical Character
2. Worthy use of leisure time
3. Neuromuscular Coordination
4. Organic Power and Health

Options :

686340171317. 1
686340171318. 2
686340171319. 3
686340171320. 4

Question Number : 30 Question Id : 68634043372 Question Type : MCQ Option Shuffling : No Is Question Mandatory : No Calculator : None Response Time : N.A Think Time : N.A Minimum Instruction Time : 0 Correct Marks : 4 Wrong Marks : 1

शिक्षाविदों के अनुसार शारीरिक शिक्षा के निम्नलिखित उद्देश्यों में से किसमें आदर्शवाद की अधिकता है?

1. नैतिक चरित्र
2. रिक्त समय का उचित उपयोग
3. मांसपेशी एवं तंत्रिकाओं का समन्वय (न्यूरोमस्क्युलर समन्वय)
4. जैव शक्ति एवं स्वास्थ्य

Options :

686340171317. 1
686340171318. 2
686340171319. 3
686340171320. 4

Question Number : 31 Question Id : 68634043373 Question Type : MCQ Option Shuffling : No Is Question Mandatory : No Calculator : None Response Time : N.A Think Time : N.A Minimum Instruction Time : 0 Correct Marks : 4 Wrong Marks : 1

Endomorph body type according to sheldon is _____

1. A muscular body
2. A pear shaped body
3. An Apple shaped body
4. A lean and thin body

Options :

686340171321. 1
686340171322. 2
686340171323. 3
686340171324. 4

**Question Number : 31 Question Id : 68634043373 Question Type : MCQ Option Shuffling : No Is Question Mandatory :
No Calculator : None Response Time : N.A Think Time : N.A Minimum Instruction Time : 0
Correct Marks : 4 Wrong Marks : 1**

शेल्डन के अनुसार 'इन्डोमार्फ' शारीरिक संरचना एक _____ के प्रकार की होती है।

1. मांसपेशीय शरीर
2. नाशपाती के आकार का शरीर
3. सेब के आकार का शरीर
4. दुबला पतला शरीर

Options :

686340171321. 1
686340171322. 2
686340171323. 3
686340171324. 4

**Question Number : 32 Question Id : 68634043374 Question Type : MCQ Option Shuffling : No Is Question Mandatory :
No Calculator : None Response Time : N.A Think Time : N.A Minimum Instruction Time : 0
Correct Marks : 4 Wrong Marks : 1**

which of the following is not the technique of motivation?

1. Cognitive Approach
2. Intuitive Approach
3. Pedagogical Approach
4. Facilitation Approach

Options :

686340171325. 1
686340171326. 2
686340171327. 3
686340171328. 4

**Question Number : 32 Question Id : 68634043374 Question Type : MCQ Option Shuffling : No Is Question Mandatory :
No Calculator : None Response Time : N.A Think Time : N.A Minimum Instruction Time : 0
Correct Marks : 4 Wrong Marks : 1**

निम्न में कौन सी एक अभिप्रेरण की तकनीक नहीं है?

1. संज्ञानात्मक दृष्टिकोण
2. अंतः प्रज्ञात्मक प्रस्ताव
3. शैक्षणिक प्रस्ताव
4. सरलीकरण प्रस्ताव

Options :

686340171325. 1
686340171326. 2
686340171327. 3
686340171328. 4

Question Number : 33 Question Id : 68634043375 Question Type : MCQ Option Shuffling : No Is Question Mandatory : No Calculator : None Response Time : N.A Think Time : N.A Minimum Instruction Time : 0

Correct Marks : 4 Wrong Marks : 1

Playing Racket games like Tennis, Badminton, Squash etc, have similar part whole involved and in such cases _____ is quiet obvious.

1. Goal Setting
2. Effect of Exercise
3. Transfer Effect
4. Anxiety

Options :

686340171329. 1
686340171330. 2
686340171331. 3
686340171332. 4

Question Number : 33 Question Id : 68634043375 Question Type : MCQ Option Shuffling : No Is Question Mandatory : No Calculator : None Response Time : N.A Think Time : N.A Minimum Instruction Time : 0

Correct Marks : 4 Wrong Marks : 1

टेनिस, बैडमिन्टन और स्काश आदि रैकेट से खेले जाने वाले खेलों में एक समान क्रियाओं का कुछ हिस्सा या पूरे ही हिस्से का _____ होना स्वभाविक है।

1. लक्ष्य निर्धारण
2. व्यायाम के प्रभाव
3. स्थानान्तरण प्रभाव
4. दुश्चिंता

Options :

- 686340171329. 1
- 686340171330. 2
- 686340171331. 3
- 686340171332. 4

Question Number : 34 Question Id : 68634043376 Question Type : MCQ Option Shuffling : No Is Question Mandatory : No Calculator : None Response Time : N.A Think Time : N.A Minimum Instruction Time : 0 Correct Marks : 4 Wrong Marks : 1

Who said that " Man is by nature a social animal " ?

1. Auguste
2. Aristotle
3. Herbert Spencer
4. Karl Marx

Options :

- 686340171333. 1
- 686340171334. 2
- 686340171335. 3
- 686340171336. 4

Question Number : 34 Question Id : 68634043376 Question Type : MCQ Option Shuffling : No Is Question Mandatory : No Calculator : None Response Time : N.A Think Time : N.A Minimum Instruction Time : 0 Correct Marks : 4 Wrong Marks : 1

"मानव स्वभावतः एक सामाजिक प्राणी है" यह किसने कहा है ?

1. अगस्ते
2. अरस्तु
3. हरबर्ट स्पेन्सर
4. कार्ल मार्क्स

Options :

686340171333. 1
686340171334. 2
686340171335. 3
686340171336. 4

**Question Number : 35 Question Id : 68634043377 Question Type : MCQ Option Shuffling : No Is Question Mandatory :
No Calculator : None Response Time : N.A Think Time : N.A Minimum Instruction Time : 0
Correct Marks : 4 Wrong Marks : 1**

Which of the following is not a feature of culture?

1. Culture is static
2. Culture is diverse
3. Culture is ideational
4. Culture is shared by a group of people

Options :

686340171337. 1
686340171338. 2
686340171339. 3
686340171340. 4

**Question Number : 35 Question Id : 68634043377 Question Type : MCQ Option Shuffling : No Is Question Mandatory :
No Calculator : None Response Time : N.A Think Time : N.A Minimum Instruction Time : 0
Correct Marks : 4 Wrong Marks : 1**

निम्न में से कौन सी संस्कृति की विशेषता नहीं है?

1. संस्कृति स्थिर होती है।
2. संस्कृति में विभिन्नता होती है।
3. संस्कृति विचारात्मक होती है।
4. संस्कृति व्यक्तियों के समूह द्वारा साझा की जाती है।

Options :

686340171337. 1
686340171338. 2
686340171339. 3
686340171340. 4

**Question Number : 36 Question Id : 68634043378 Question Type : MCQ Option Shuffling : No Is Question Mandatory :
No Calculator : None Response Time : N.A Think Time : N.A Minimum Instruction Time : 0
Correct Marks : 4 Wrong Marks : 1**

Which of the following is not a characteristic of a primary social group according to C.H. Cooley?

1. Close relationship
2. Small in size
3. Self-dependence among members
4. Common commitments among members

Options :

- 686340171341. 1
- 686340171342. 2
- 686340171343. 3
- 686340171344. 4

Question Number : 36 Question Id : 68634043378 Question Type : MCQ Option Shuffling : No Is Question Mandatory : No Calculator : None Response Time : N.A Think Time : N.A Minimum Instruction Time : 0 Correct Marks : 4 Wrong Marks : 1

सी. एच. कुले के अनुसार निम्न में से कौन सी विशेषता प्राथमिक सामाजिक समूह की नहीं है ?

1. घनिष्ठ संबन्ध
2. आकार में छोटी
3. सदस्यों के मध्य आत्मिक स्वतंत्रता
4. सार्वजनिक प्रतिबद्धता

Options :

- 686340171341. 1
- 686340171342. 2
- 686340171343. 3
- 686340171344. 4

Question Number : 37 Question Id : 68634043379 Question Type : MCQ Option Shuffling : No Is Question Mandatory : No Calculator : None Response Time : N.A Think Time : N.A Minimum Instruction Time : 0 Correct Marks : 4 Wrong Marks : 1

_____ shall always be remembered as pioneer for developing of a sports system in the form of Pan-Hellenic festival.

1. Greece
2. Rome
3. France
4. Italy

Options :

686340171345. 1
686340171346. 2
686340171347. 3
686340171348. 4

**Question Number : 37 Question Id : 68634043379 Question Type : MCQ Option Shuffling : No Is Question Mandatory :
No Calculator : None Response Time : N.A Think Time : N.A Minimum Instruction Time : 0
Correct Marks : 4 Wrong Marks : 1**

_____ को पैन हेलेनिक त्योहार के रूप में एक खेल प्रणाली विकसित करने के लिए हमेशा अग्रणी रूप में याद किया जायगा।

1. ग्रीस
2. रोम
3. फ्रांस
4. इटली

Options :

686340171345. 1
686340171346. 2
686340171347. 3
686340171348. 4

**Question Number : 38 Question Id : 68634043380 Question Type : MCQ Option Shuffling : No Is Question Mandatory :
No Calculator : None Response Time : N.A Think Time : N.A Minimum Instruction Time : 0
Correct Marks : 4 Wrong Marks : 1**

_____ is the maintenance of relatively stable conditions in the body's internal environment produced by body's regulatory process.

1. Homogenasis
2. Homeostasis
3. Adaptation
4. Stability

Options :

686340171349. 1
686340171350. 2
686340171351. 3
686340171352. 4

**Question Number : 38 Question Id : 68634043380 Question Type : MCQ Option Shuffling : No Is Question Mandatory :
No Calculator : None Response Time : N.A Think Time : N.A Minimum Instruction Time : 0
Correct Marks : 4 Wrong Marks : 1**

शरीर की नियामक प्रक्रिया द्वारा उत्पादित, शरीर के आंतरिक वातावरण में अपेक्षाकृत स्थिर स्थितियों का रखरखाव है।

1. होमोजेनासिस
2. होमियोस्टेसिस
3. अनुकूलन
4. स्थिरता

Options :

686340171349. 1
686340171350. 2
686340171351. 3
686340171352. 4

Question Number : 39 Question Id : 68634043381 Question Type : MCQ Option Shuffling : No Is Question Mandatory : No Calculator : None Response Time : N.A Think Time : N.A Minimum Instruction Time : 0

Correct Marks : 4 Wrong Marks : 1

Name the component which protect and regulates various body processes.

1. Fats
2. Protein Carbohydrates
3. Carbohydrates
4. Vitamins and minerals

Options :

686340171353. 1
686340171354. 2
686340171355. 3
686340171356. 4

Question Number : 39 Question Id : 68634043381 Question Type : MCQ Option Shuffling : No Is Question Mandatory : No Calculator : None Response Time : N.A Think Time : N.A Minimum Instruction Time : 0

Correct Marks : 4 Wrong Marks : 1

विभिन्न शारीरिक प्रक्रियाओं का संरक्षण एवं नियमन करने वाले घटक का नाम बताइए?

1. वसा
2. प्रोटीन
3. कार्बोहाइड्रेट
4. विटामिन और खनिज लवण

Options :

686340171353. 1
686340171354. 2
686340171355. 3
686340171356. 4

**Question Number : 40 Question Id : 68634043382 Question Type : MCQ Option Shuffling : No Is Question Mandatory :
No Calculator : None Response Time : N.A Think Time : N.A Minimum Instruction Time : 0
Correct Marks : 4 Wrong Marks : 1**

Glycogen - Storage can be used by an individual during _____.

1. Vigorous Exercise
2. Heated discussion
3. Meditation
4. Normal Routine

Options :

686340171357. 1
686340171358. 2
686340171359. 3
686340171360. 4

**Question Number : 40 Question Id : 68634043382 Question Type : MCQ Option Shuffling : No Is Question Mandatory :
No Calculator : None Response Time : N.A Think Time : N.A Minimum Instruction Time : 0
Correct Marks : 4 Wrong Marks : 1**

_____ के दौरान एक व्यक्ति द्वारा 'गलाइकोजन भंडारण' का उपयोग किया जाता है।

1. प्रबल व्यायाम
2. जोरदार बहस
3. ध्यान
4. सामान्य दिनचर्या

Options :

686340171357. 1
686340171358. 2
686340171359. 3
686340171360. 4

**Question Number : 41 Question Id : 68634043383 Question Type : MCQ Option Shuffling : No Is Question Mandatory :
No Calculator : None Response Time : N.A Think Time : N.A Minimum Instruction Time : 0
Correct Marks : 4 Wrong Marks : 1**

Name the microbes those are hundred percent disease-causing organism-

1. Fungi
2. Bacteria
3. Viruses
4. Protozoa

Options :

- 686340171361. 1
- 686340171362. 2
- 686340171363. 3
- 686340171364. 4

Question Number : 41 Question Id : 68634043383 Question Type : MCQ Option Shuffling : No Is Question Mandatory : No Calculator : None Response Time : N.A Think Time : N.A Minimum Instruction Time : 0 Correct Marks : 4 Wrong Marks : 1

उन जीवाणुओं के नाम लिखिए जो सौ प्रतिशत रोग कारक जीव हैं।

1. कवक (फंगी)
2. बैक्टीरिया
3. वाइरस
4. प्रोटोजोआ

Options :

- 686340171361. 1
- 686340171362. 2
- 686340171363. 3
- 686340171364. 4

Question Number : 42 Question Id : 68634043384 Question Type : MCQ Option Shuffling : No Is Question Mandatory : No Calculator : None Response Time : N.A Think Time : N.A Minimum Instruction Time : 0 Correct Marks : 4 Wrong Marks : 1

Major aim of transitional period is -

1. Recreation
2. Stabilizing performance
3. Achieving top form
4. Recovery and relaxation

Options :

- 686340171365. 1

686340171366. 2
686340171367. 3
686340171368. 4

**Question Number : 42 Question Id : 68634043384 Question Type : MCQ Option Shuffling : No Is Question Mandatory :
No Calculator : None Response Time : N.A Think Time : N.A Minimum Instruction Time : 0
Correct Marks : 4 Wrong Marks : 1**

संक्रांति काल का मुख्य उद्देश्य _____ है।

1. मनोरंजन
2. प्रदर्शन को स्थिर करना
3. उच्च प्रदर्शन को प्राप्त करना
4. पुनःप्राप्ति एवं विश्राम

Options :

686340171365. 1
686340171366. 2
686340171367. 3
686340171368. 4

**Question Number : 43 Question Id : 68634043385 Question Type : MCQ Option Shuffling : No Is Question Mandatory :
No Calculator : None Response Time : N.A Think Time : N.A Minimum Instruction Time : 0
Correct Marks : 4 Wrong Marks : 1**

Which one of the following is related with Gene Doping.

1. Intravascular manipulation of blood
2. Psycho active compound with sleep inducing properties
3. Transfer of polymers of Nucleic acids
4. Through operation

Options :

686340171369. 1
686340171370. 2
686340171371. 3
686340171372. 4

**Question Number : 43 Question Id : 68634043385 Question Type : MCQ Option Shuffling : No Is Question Mandatory :
No Calculator : None Response Time : N.A Think Time : N.A Minimum Instruction Time : 0
Correct Marks : 4 Wrong Marks : 1**

निम्न में से कौन सा जीन डोपिंग से सम्बन्धित है?

1. रक्त के आन्तरिक संवहन में कार्यसाधन
2. नींद उत्प्रेरक गुणों के साथ मनोसक्रिय यौगिक
3. न्यूक्लिक एसिड के साथ पॉलीमर का स्थानान्तरण
4. ऑपरेशन द्वारा

Options :

686340171369. 1
686340171370. 2
686340171371. 3
686340171372. 4

Question Number : 44 Question Id : 68634043386 Question Type : MCQ Option Shuffling : No Is Question Mandatory : No Calculator : None Response Time : N.A Think Time : N.A Minimum Instruction Time : 0

Correct Marks : 4 Wrong Marks : 1

Dr. Hans Reindell is associated with-

1. Continuous training
2. Interval Training
3. Circuit Training
4. Cross Training

Options :

686340171373. 1
686340171374. 2
686340171375. 3
686340171376. 4

Question Number : 44 Question Id : 68634043386 Question Type : MCQ Option Shuffling : No Is Question Mandatory : No Calculator : None Response Time : N.A Think Time : N.A Minimum Instruction Time : 0

Correct Marks : 4 Wrong Marks : 1

डॉ. हांस रिन्दल _____ से संबंधित है।

1. निरंतर प्रशिक्षण
2. अन्तराल प्रशिक्षण
3. परिधि प्रशिक्षण
4. क्रॉस ट्रेनिंग

Options :

686340171373. 1
686340171374. 2
686340171375. 3
686340171376. 4

**Question Number : 45 Question Id : 68634043387 Question Type : MCQ Option Shuffling : No Is Question Mandatory :
No Calculator : None Response Time : N.A Think Time : N.A Minimum Instruction Time : 0
Correct Marks : 4 Wrong Marks : 1**

Knock-knee is a condition in which the knees are closer to each other while the feet remain apart when a person is in a standing position. Knock-knee is also known as _____

1. Pes Planus
2. Genu Valgum
3. Genu Varum
4. Bow knees

Options :

686340171377. 1
686340171378. 2
686340171379. 3
686340171380. 4

**Question Number : 45 Question Id : 68634043387 Question Type : MCQ Option Shuffling : No Is Question Mandatory :
No Calculator : None Response Time : N.A Think Time : N.A Minimum Instruction Time : 0
Correct Marks : 4 Wrong Marks : 1**

'नॉक-नी' एक ऐसी अवस्था है जिसमें एक व्यक्ति के खड़े होने की स्थिति में घुटने पास-पास होते हैं और पैर दूर होते हैं। 'नॉक-नी' को _____ नाम से भी जाना जाता है।

1. चपटे पैर
2. जेनु वाल्गम
3. जेनु वैरम
4. बो नी (घनुषाकार घुटने)

Options :

686340171377. 1
686340171378. 2
686340171379. 3
686340171380. 4

**Question Number : 46 Question Id : 68634043388 Question Type : MCQ Option Shuffling : No Is Question Mandatory :
No Calculator : None Response Time : N.A Think Time : N.A Minimum Instruction Time : 0
Correct Marks : 4 Wrong Marks : 1**

Which of the following movement does not occur at Neck Joint?

1. Flexion
2. Rotation
3. Hyper Extension
4. Adduction

Options :

- 686340171381. 1
- 686340171382. 2
- 686340171383. 3
- 686340171384. 4

Question Number : 46 Question Id : 68634043388 Question Type : MCQ Option Shuffling : No Is Question Mandatory : No Calculator : None Response Time : N.A Think Time : N.A Minimum Instruction Time : 0

Correct Marks : 4 Wrong Marks : 1

निम्न में से कौन सी गतियाँ 'गरदन के जोड़' पर नहीं होती है?

1. फ्लेक्शन
2. रोटेशन
3. हाइपर एक्सटेंशन
4. एडक्शन

Options :

- 686340171381. 1
- 686340171382. 2
- 686340171383. 3
- 686340171384. 4

Question Number : 47 Question Id : 68634043389 Question Type : MCQ Option Shuffling : No Is Question Mandatory : No Calculator : None Response Time : N.A Think Time : N.A Minimum Instruction Time : 0

Correct Marks : 4 Wrong Marks : 1

The Core content of Biomechanics is made of following diverse subjects except_____.

1. Biology
2. Physics
3. Psychology
4. Engineering

Options :

- 686340171385. 1

686340171386. 2
686340171387. 3
686340171388. 4

Question Number : 47 Question Id : 68634043389 Question Type : MCQ Option Shuffling : No Is Question Mandatory : No Calculator : None Response Time : N.A Think Time : N.A Minimum Instruction Time : 0 Correct Marks : 4 Wrong Marks : 1

जीव यान्त्रिकी की मूल सामग्री, _____ को छोड़ कर विभिन्न विषयों से ली गई है

1. जीव विज्ञान
2. भौतिकी
3. मनोविज्ञान
4. इंजीनियरिंग

Options :

686340171385. 1
686340171386. 2
686340171387. 3
686340171388. 4

Question Number : 48 Question Id : 68634043390 Question Type : MCQ Option Shuffling : No Is Question Mandatory : No Calculator : None Response Time : N.A Think Time : N.A Minimum Instruction Time : 0 Correct Marks : 4 Wrong Marks : 1

Which of the following is not a type of Research?

1. Fundamental Research
2. Typical Research
3. Applied Research
4. Action Research

Options :

686340171389. 1
686340171390. 2
686340171391. 3
686340171392. 4

Question Number : 48 Question Id : 68634043390 Question Type : MCQ Option Shuffling : No Is Question Mandatory : No Calculator : None Response Time : N.A Think Time : N.A Minimum Instruction Time : 0 Correct Marks : 4 Wrong Marks : 1

निम्न में से कौन सा अनुसंधान का प्रकार नहीं है ?

1. मौलिक अनुसंधान
2. प्रारूपिक अनुसंधान
3. व्यावहारिक अनुसंधान
4. क्रिया अनुसंधान

Options :

686340171389. 1
686340171390. 2
686340171391. 3
686340171392. 4

Question Number : 49 Question Id : 68634043391 Question Type : MCQ Option Shuffling : No Is Question Mandatory : No Calculator : None Response Time : N.A Think Time : N.A Minimum Instruction Time : 0 Correct Marks : 4 Wrong Marks : 1

Which of the following is a Type of Probability Sampling?

1. Judgmental Sampling
2. Snowball Sampling
3. Multistage Sampling
4. Quota Sampling

Options :

686340171393. 1
686340171394. 2
686340171395. 3
686340171396. 4

Question Number : 49 Question Id : 68634043391 Question Type : MCQ Option Shuffling : No Is Question Mandatory : No Calculator : None Response Time : N.A Think Time : N.A Minimum Instruction Time : 0 Correct Marks : 4 Wrong Marks : 1

निम्न में से कौन सा एक संभावित नमूने का प्रकार है?

1. आलोचनात्मक
2. स्नोबाल नमूना चयन
3. बहुस्तरीय नमूना चयन
4. कोटा नमूना चयन

Options :

686340171393. 1
686340171394. 2
686340171395. 3
686340171396. 4

Question Number : 50 Question Id : 68634043392 Question Type : MCQ Option Shuffling : No Is Question Mandatory : No Calculator : None Response Time : N.A Think Time : N.A Minimum Instruction Time : 0 Correct Marks : 4 Wrong Marks : 1

" The scope or extensiveness of the study in terms of Variables, no. of subjects & the geographical area within which data is to be calculated", comes under which body of Report Writing?

1. Hypothesis of the study
2. Limitations of the study
3. Significance of the study
4. Delimitations of the study

Options :

686340171397. 1
686340171398. 2
686340171399. 3
686340171400. 4

Question Number : 50 Question Id : 68634043392 Question Type : MCQ Option Shuffling : No Is Question Mandatory : No Calculator : None Response Time : N.A Think Time : N.A Minimum Instruction Time : 0 Correct Marks : 4 Wrong Marks : 1

चर, विषयों की संख्या और भौगोलिक क्षेत्र के संदर्भ में अध्ययन का दायरा या व्यापकता जिसके भीतर डेटा की गणना की जानी है" रिपोर्ट लेखन के किस निकाय के अंतर्गत आता है?

1. अध्ययन की परिकल्पना (हाइपोथेसिस)
2. अध्ययन की सीमाएं
3. अध्ययन का साधकता
4. अध्ययन का सीमांकन

Options :

686340171397. 1
686340171398. 2
686340171399. 3
686340171400. 4

Question Number : 51 Question Id : 68634043393 Question Type : MCQ Option Shuffling : No Is Question Mandatory : No Calculator : None Response Time : N.A Think Time : N.A Minimum Instruction Time : 0 Correct Marks : 4 Wrong Marks : 1

Sargent Jump test is used to measure _____ component of Physical fitness.

1. Speed
2. Muscular Endurance
3. Balance
4. Power

Options :

- 686340171401. 1
- 686340171402. 2
- 686340171403. 3
- 686340171404. 4

Question Number : 51 Question Id : 68634043393 Question Type : MCQ Option Shuffling : No Is Question Mandatory : No Calculator : None Response Time : N.A Think Time : N.A Minimum Instruction Time : 0

Correct Marks : 4 Wrong Marks : 1

'सरजेंट जम्प टेस्ट' का प्रयोग, शारीरिक पुष्टि के _____ घटक को मापने के लिए किया जाता है।

1. गति
2. मांसपेशीय सहन क्षमता
3. संतुलन
4. बल

Options :

- 686340171401. 1
- 686340171402. 2
- 686340171403. 3
- 686340171404. 4

Question Number : 52 Question Id : 68634043394 Question Type : MCQ Option Shuffling : No Is Question Mandatory : No Calculator : None Response Time : N.A Think Time : N.A Minimum Instruction Time : 0

Correct Marks : 4 Wrong Marks : 1

Which of the following test item is used to measure abdominal strength and endurance in AAHPER youth fitness test?

1. Sit ups
2. Pull ups
3. Standing long jump
4. Shuttle Run

Options :

- 686340171405. 1

686340171406. 2
686340171407. 3
686340171408. 4

Question Number : 52 Question Id : 68634043394 Question Type : MCQ Option Shuffling : No Is Question Mandatory : No Calculator : None Response Time : N.A Think Time : N.A Minimum Instruction Time : 0 Correct Marks : 4 Wrong Marks : 1

आहपर (AAPHER) यूथ फिटनेस परीक्षण के तहत उदरीय शक्ति और सहन क्षमता को मापने के लिए निम्नलिखित में से कौन सा परीक्षण किया जाता है?

1. सिट-अप्स
2. पुल-अप्स
3. स्टैंडिंग लॉन्ग जंप
4. शटल रन

Options :

686340171405. 1
686340171406. 2
686340171407. 3
686340171408. 4

Question Number : 53 Question Id : 68634043395 Question Type : MCQ Option Shuffling : No Is Question Mandatory : No Calculator : None Response Time : N.A Think Time : N.A Minimum Instruction Time : 0 Correct Marks : 4 Wrong Marks : 1

Which type of validity refers to the extent to which the test questions are representative of the skills in the specified domain?

1. Content Validity
2. Face Validity
3. Criterion Validity
4. Construct Validity

Options :

686340171409. 1
686340171410. 2
686340171411. 3
686340171412. 4

Question Number : 53 Question Id : 68634043395 Question Type : MCQ Option Shuffling : No Is Question Mandatory : No Calculator : None Response Time : N.A Think Time : N.A Minimum Instruction Time : 0 Correct Marks : 4 Wrong Marks : 1

किस प्रकार की वैधता उस सीमा को संदर्भित करती है, जिस तक परीक्षण प्रश्न निर्दिष्ट क्षेत्र में कौशल का प्रतिनिधित्व करते हैं?

1. सामग्री वैधता
2. अंकण वैधता
3. कसोटी वैधता
4. निर्माण वैधता

Options :

686340171409. 1
686340171410. 2
686340171411. 3
686340171412. 4

Question Number : 54 Question Id : 68634043396 Question Type : MCQ Option Shuffling : No Is Question Mandatory : No Calculator : None Response Time : N.A Think Time : N.A Minimum Instruction Time : 0 Correct Marks : 4 Wrong Marks : 1

Which of the following objective is not achieved through intramural?

1. Improve the physical efficiency of all students
2. To provide new rules and advanced techniques
3. To act as an instrument of talent selection and grooming
4. To develop social qualities like co-operation and group harmony

Options :

686340171413. 1
686340171414. 2
686340171415. 3
686340171416. 4

Question Number : 54 Question Id : 68634043396 Question Type : MCQ Option Shuffling : No Is Question Mandatory : No Calculator : None Response Time : N.A Think Time : N.A Minimum Instruction Time : 0 Correct Marks : 4 Wrong Marks : 1

निम्न में से कौन सा उद्देश्य इंटराम्यूरल द्वारा प्राप्त नहीं किया जा सकता?

1. सभी विधार्थियों की शारीरिक क्षमता में वृद्धि
2. नए नियम व उत्तम तकनीकें प्रदान करना
3. प्रतिभा-चयन और संवारने के लिए साधन के रूप में कार्य करना
4. सामाजिक गुणों-सहयोग व समूह सौहार्द का विकास करना

Options :

- 686340171413. 1
- 686340171414. 2
- 686340171415. 3
- 686340171416. 4

Question Number : 55 Question Id : 68634043397 Question Type : MCQ Option Shuffling : No Is Question Mandatory : No Calculator : None Response Time : N.A Think Time : N.A Minimum Instruction Time : 0 Correct Marks : 4 Wrong Marks : 1

As per FINA's standards an Olympic-size Swimming pool must have the following measurements?

- 1. 50m in length by 20m Wide
- 2. 40m in length by 25m Wide
- 3. 50m in length by 25m Wide
- 4. 40m in length by 20m Wide

Options :

- 686340171417. 1
- 686340171418. 2
- 686340171419. 3
- 686340171420. 4

Question Number : 55 Question Id : 68634043397 Question Type : MCQ Option Shuffling : No Is Question Mandatory : No Calculator : None Response Time : N.A Think Time : N.A Minimum Instruction Time : 0 Correct Marks : 4 Wrong Marks : 1

फिना (FINA) के मानकों के अनुसार ओलंपिक के लिए तरणताल का मापन निम्न लिखित होना चाहिए।

- 1. लम्बाई 50मी. चौड़ाई 20मी.
- 2. लम्बाई 40मी. चौड़ाई 25मी.
- 3. लम्बाई 50मी. चौड़ाई 25मी.
- 4. लम्बाई 40मी. चौड़ाई 20मी.

Options :

- 686340171417. 1
- 686340171418. 2
- 686340171419. 3
- 686340171420. 4

Question Number : 56 Question Id : 68634043398 Question Type : MCQ Option Shuffling : No Is Question Mandatory : No Calculator : None Response Time : N.A Think Time : N.A Minimum Instruction Time : 0 Correct Marks : 4 Wrong Marks : 1

In a management process, when we try to let the employees perform the allocated duties, this function of management is known as:

1. Planning
2. Organising
3. Directing
4. Controlling

Options :

- 686340171421. 1
- 686340171422. 2
- 686340171423. 3
- 686340171424. 4

Question Number : 56 Question Id : 68634043398 Question Type : MCQ Option Shuffling : No Is Question Mandatory : No Calculator : None Response Time : N.A Think Time : N.A Minimum Instruction Time : 0 Correct Marks : 4 Wrong Marks : 1

प्रबंधन प्रक्रिया के अंतर्गत वे कार्य, जिसमें कर्मचारी आवंटित कार्यों का क्रियान्वन करता है प्रबंधन के _____ कार्य के रूप में जाना जाता है।

1. नियोजन
2. आयोजन
3. निर्देशन
4. नियंत्रण

Options :

- 686340171421. 1
- 686340171422. 2
- 686340171423. 3
- 686340171424. 4

Question Number : 57 Question Id : 68634043399 Question Type : MCQ Option Shuffling : No Is Question Mandatory : No Calculator : None Response Time : N.A Think Time : N.A Minimum Instruction Time : 0 Correct Marks : 4 Wrong Marks : 1

Which amongst the following personalities is known as the " Guru " of Management?

1. Peter Drucker
2. Henri Fayol
3. Ludwig von Bertalanffy
4. Fred J. Weston

Options :

- 686340171425. 1
- 686340171426. 2
- 686340171427. 3
- 686340171428. 4

Question Number : 57 Question Id : 68634043399 Question Type : MCQ Option Shuffling : No Is Question Mandatory : No Calculator : None Response Time : N.A Think Time : N.A Minimum Instruction Time : 0 Correct Marks : 4 Wrong Marks : 1

निम्न में से कौन से व्यक्तित्व को 'प्रबंधन गुरु' नाम से जाना जाता है?

1. पीटर ड्रुकर
2. हेनरी फेयोल
3. लुद्विग वोन बर्तलिंफी
4. फ्रेड जे वेस्टोन

Options :

- 686340171425. 1
- 686340171426. 2
- 686340171427. 3
- 686340171428. 4

Question Number : 58 Question Id : 68634043400 Question Type : MCQ Option Shuffling : No Is Question Mandatory : No Calculator : None Response Time : N.A Think Time : N.A Minimum Instruction Time : 0 Correct Marks : 4 Wrong Marks : 1

Which of the following award was introduced in 1985?

1. Maulana Abul Kalam Azad Trophy
2. Rajiv Gandhi Khel Ratna Award
3. Arjun Award
4. Dronacharya Award

Options :

- 686340171429. 1
- 686340171430. 2
- 686340171431. 3
- 686340171432. 4

Question Number : 58 Question Id : 68634043400 Question Type : MCQ Option Shuffling : No Is Question Mandatory : No Calculator : None Response Time : N.A Think Time : N.A Minimum Instruction Time : 0 Correct Marks : 4 Wrong Marks : 1

1985 में निम्नलिखित में से कौन सा अवार्ड शुरू किया गया?

1. मौलाना अबुल कलाम आज़ाद ट्रॉफी
2. राजीव गाँधी खेल रत्न अवार्ड
3. अर्जुन अवार्ड
4. द्रोणाचार्य अवार्ड

Options :

686340171429. 1
686340171430. 2
686340171431. 3
686340171432. 4

Question Number : 59 Question Id : 68634043401 Question Type : MCQ Option Shuffling : No Is Question Mandatory : No Calculator : None Response Time : N.A Think Time : N.A Minimum Instruction Time : 0

Correct Marks : 4 Wrong Marks : 1

Which University has won the Maulana Abul Kalan Azad Trophy maximum number of times?

1. Panjab University, Chandigarh
2. Guru Nanak Dev University, Amritsar
3. Maharishi Dayanand University, Rohtak
4. Punjabi University , Patiala

Options :

686340171433. 1
686340171434. 2
686340171435. 3
686340171436. 4

Question Number : 59 Question Id : 68634043401 Question Type : MCQ Option Shuffling : No Is Question Mandatory : No Calculator : None Response Time : N.A Think Time : N.A Minimum Instruction Time : 0

Correct Marks : 4 Wrong Marks : 1

मौलाना अबुल कलाम आज़ाद ट्रॉफी, किस महाविद्यालय ने सर्वाधिक बार जीती है?

1. पंजाब विश्वविद्यालय, चंडीगढ़
2. गुरु नानक देव विश्वविद्यालय, अमृतसर
3. महर्षि दयानन्द विश्वविद्यालय, रोहतक
4. पंजाबी विश्वविद्यालय, पटियाला

Options :

686340171433. 1
686340171434. 2
686340171435. 3
686340171436. 4

**Question Number : 60 Question Id : 68634043402 Question Type : MCQ Option Shuffling : No Is Question Mandatory :
No Calculator : None Response Time : N.A Think Time : N.A Minimum Instruction Time : 0
Correct Marks : 4 Wrong Marks : 1**

Which modern Olympic game was not held due to Ist World war?

1. VIth
2. Vth
3. IVth
4. VIIth

Options :

686340171437. 1
686340171438. 2
686340171439. 3
686340171440. 4

**Question Number : 60 Question Id : 68634043402 Question Type : MCQ Option Shuffling : No Is Question Mandatory :
No Calculator : None Response Time : N.A Think Time : N.A Minimum Instruction Time : 0
Correct Marks : 4 Wrong Marks : 1**

प्रथम विश्व युद्ध के कारण कौन से ओलंपिक खेल नहीं हुए थे?

1. VI वां
2. V वां
3. IV वां
4. VII वां

Options :

686340171437. 1
686340171438. 2
686340171439. 3
686340171440. 4

**Question Number : 61 Question Id : 68634043403 Question Type : MCQ Option Shuffling : No Is Question Mandatory :
No Calculator : None Response Time : N.A Think Time : N.A Minimum Instruction Time : 0
Correct Marks : 4 Wrong Marks : 1**

In 4x100m relay race, 4 athletes of each team participate and exchange batton. What are this measurement of batton exchange zone at each scratch line?

1. 30 Mtrs. Whole
2. 10m at front, 20 mt. behind
3. 15m at front, 15 mt. behind
4. 20m at front, 10 mt. behind

Options :

- 686340171441. 1
- 686340171442. 2
- 686340171443. 3
- 686340171444. 4

Question Number : 61 Question Id : 68634043403 Question Type : MCQ Option Shuffling : No Is Question Mandatory : No Calculator : None Response Time : N.A Think Time : N.A Minimum Instruction Time : 0

Correct Marks : 4 Wrong Marks : 1

4x100 मी. रिले दौड़ में एक टीम में चार धावक हिस्सा लेते हैं एवं बैटन का आदान-प्रदान करते हैं। प्रत्येक स्केच रेखा पर बैटन आदान-प्रदान जोन का क्या मापन होता है?

1. कुल 30 मीटर
2. 10 मीटर आगे, 20 मीटर पीछे
3. 15 मीटर आगे, 15 मीटर पीछे
4. 20 मीटर आगे, 10 मीटर पीछे

Options :

- 686340171441. 1
- 686340171442. 2
- 686340171443. 3
- 686340171444. 4

Question Number : 62 Question Id : 68634043404 Question Type : MCQ Option Shuffling : No Is Question Mandatory : No Calculator : None Response Time : N.A Think Time : N.A Minimum Instruction Time : 0

Correct Marks : 4 Wrong Marks : 1

Neeraj Chopra is winner of Olympic championship, Silver medalist of world championship and Diamond league in Men's Javelin throw. From the following select his personal best throw.

1. 86.76 m
2. 98.48 m
3. 89.94 m
4. 90.23 m

Options :

- 686340171445. 1
- 686340171446. 2
- 686340171447. 3
- 686340171448. 4

Question Number : 62 Question Id : 68634043404 Question Type : MCQ Option Shuffling : No Is Question Mandatory : No Calculator : None Response Time : N.A Think Time : N.A Minimum Instruction Time : 0

Correct Marks : 4 Wrong Marks : 1

नीरज चोपड़ा ओलंपिक चैम्पियनशिप का विजेता है, विश्व चैम्पियनशिप और डायमंड चैम्पियनशिप लीग में पुरुषों की भाला प्रतियोगिता के रजत पदक विजेता भी है। नीरज चौपड़ा द्वारा फेंकी गई सर्वोत्तम दूरी का निम्न में से चुनाव कीजिए।

1. 86.76 मी.
2. 98.48 मी.
3. 89.94 मी.
4. 90.23 मी.

Options :

- 686340171445. 1
- 686340171446. 2
- 686340171447. 3
- 686340171448. 4

Question Number : 63 Question Id : 68634043405 Question Type : MCQ Option Shuffling : No Is Question Mandatory : No Calculator : None Response Time : N.A Think Time : N.A Minimum Instruction Time : 0

Correct Marks : 4 Wrong Marks : 1

Which of the following is not a way of getting out in the game of Cricket?

1. Hitting the ball twice
2. Obstructing the field
3. Ball Tampering
4. Time Out

Options :

686340171449. 1
686340171450. 2
686340171451. 3
686340171452. 4

**Question Number : 63 Question Id : 68634043405 Question Type : MCQ Option Shuffling : No Is Question Mandatory :
No Calculator : None Response Time : N.A Think Time : N.A Minimum Instruction Time : 0
Correct Marks : 4 Wrong Marks : 1**

निम्न में से कौन सा एक क्रिकेट में आउट होने का एक तरीका नहीं है?

1. बाल पर दो बार प्रहार करना
2. मैदान पर बाधा उत्पन्न करना
3. बाल के आकार से छेड़छाड़ (बाल टेंपरिंग)
4. समय सीमा समाप्त (टाइम आउट)

Options :

686340171449. 1
686340171450. 2
686340171451. 3
686340171452. 4

**Question Number : 64 Question Id : 68634043406 Question Type : MCQ Option Shuffling : No Is Question Mandatory :
No Calculator : None Response Time : N.A Think Time : N.A Minimum Instruction Time : 0
Correct Marks : 4 Wrong Marks : 1**

Which one of the following is not the function of NSNIS Patilia?

1. To promote sports in the country
2. To promote high calibre coaches
3. To organise Rural sports
4. Refresher Course for in service coaches

Options :

686340171453. 1
686340171454. 2
686340171455. 3
686340171456. 4

**Question Number : 64 Question Id : 68634043406 Question Type : MCQ Option Shuffling : No Is Question Mandatory :
No Calculator : None Response Time : N.A Think Time : N.A Minimum Instruction Time : 0
Correct Marks : 4 Wrong Marks : 1**

निम्न में से कौन सा एक एन. एस. एन. आई. एस. (NSNIS) पटियाला का कार्य नहीं है ?

1. देश में खेलों को बढ़ावा देना
2. उच्च क्षमता वाले कोच को बढ़ावा देना
3. ग्रामीण खेलों को बढ़ावा देना
4. इन सर्विस कोच के लिए रिक्रेशर कोर्स करवाना

Options :

686340171453. 1
686340171454. 2
686340171455. 3
686340171456. 4

Question Number : 65 Question Id : 68634043407 Question Type : MCQ Option Shuffling : No Is Question Mandatory : No Calculator : None Response Time : N.A Think Time : N.A Minimum Instruction Time : 0

Correct Marks : 4 Wrong Marks : 1

Who was the first President of Indian Olympic Association.

1. Maharaja Bhupender Singh
2. Maharaja Yadavinder Singh
3. Sir Dorabji Tata
4. Mr. Om Prakash Mehra

Options :

686340171457. 1
686340171458. 2
686340171459. 3
686340171460. 4

Question Number : 65 Question Id : 68634043407 Question Type : MCQ Option Shuffling : No Is Question Mandatory : No Calculator : None Response Time : N.A Think Time : N.A Minimum Instruction Time : 0

Correct Marks : 4 Wrong Marks : 1

भारतीय ओलंपिक संघ के प्रथम अध्यक्ष कौन थे?

1. महाराजा भूपिन्दर सिंह
2. महाराजा यादविंदर सिंह
3. सर दोराबजी टाटा
4. श्री ओम प्रकाश मेहरा

Options :

686340171457. 1

686340171458. 2
686340171459. 3
686340171460. 4

Question Number : 66 Question Id : 68634043408 Question Type : MCQ Option Shuffling : No Is Question Mandatory : No Calculator : None Response Time : N.A Think Time : N.A Minimum Instruction Time : 0

Correct Marks : 4 Wrong Marks : 1

Given below are two statements: one is labelled as **Assertion A** and the other is labelled as **Reason R**

Assertion A: In the perspective of physical education the most appropriate explanation of Naturalism is that physical activity is an instrument of self preservation and man's urge for it is innate.

Reason R: Play way learning brings desirable change in child's behaviour and ensures growth and development.

In the light of the above statements, choose the correct answer from the options given below:

1. Both A and R are true and R is the correct explanation of A
2. Both A and R are true and R is not the correct explanation of A
3. A is true but R is false
4. A is false but R is true

Options :

686340171461. 1
686340171462. 2
686340171463. 3
686340171464. 4

Question Number : 66 Question Id : 68634043408 Question Type : MCQ Option Shuffling : No Is Question Mandatory : No Calculator : None Response Time : N.A Think Time : N.A Minimum Instruction Time : 0

Correct Marks : 4 Wrong Marks : 1

नीचे दो कथन दिए गये हैं: एक अभिकथन (**Assertion A**) के रूप में लिखित है तो दूसरा उसके कारण (**Reason R**) के रूप में:

अभिकथन A: शारीरिक शिक्षा के सन्दर्भ में प्रकृतिवाद की सबसे उचित व्याख्या है कि शारीरिक क्रियाएं आत्मरक्षा का साधन है और इसके लिए मनुष्य की उत्कंठा जन्मजात होती हैं।

कारण R: खेल माध्यम द्वारा सीखना, बच्चों के व्यवहार में वांछित बदलाव लाता है तथा वृद्धि एवं विकास सुनिश्चित करता है।

उपरोक्त कथन के आलोक में, निचे दिए गए विकल्पों में से सही उत्तर का चयन कीजिए।

1. A और R दोनों सत्य है और R, A की सही व्याख्या है
2. A और R दोनों सत्य है और R, A की सही व्याख्या नहीं है
3. A सत्य है, लेकिन R असत्य है
4. A असत्य है, लेकिन R सत्य है

Options :

686340171461. 1
686340171462. 2
686340171463. 3
686340171464. 4

Question Number : 67 Question Id : 68634043409 Question Type : MCQ Option Shuffling : No Is Question Mandatory : No Calculator : None Response Time : N.A Think Time : N.A Minimum Instruction Time : 0

Correct Marks : 4 Wrong Marks : 1

Given below are two statements: one is labelled as **Assertion A** and the other is labelled as **Reason R**

Assertion A: A large number of nerve fibres hold together form a nerve. Through these nerves, messages travel from one part of the body to another.

Reason R: A nerve cell is made up of the cell body, which contains the nucleus and a long structure called the axon.

In the light of the above statements, choose the correct answer from the options given below:

1. Both A and R are true and R is the correct explanation of A
2. Both A and R are true and R is not the correct explanation of A
3. A is true but R is false
4. A is false but R is true

Options :

686340171465. 1

686340171466. 2

686340171467. 3

686340171468. 4

Question Number : 67 Question Id : 68634043409 Question Type : MCQ Option Shuffling : No Is Question Mandatory : No Calculator : None Response Time : N.A Think Time : N.A Minimum Instruction Time : 0

Correct Marks : 4 Wrong Marks : 1

नीचे दो कथन दिए गये हैं: एक अभिकथन (**Assertion A**) के रूप में लिखित है तो दूसरा उसके कारण (**Reason R**) के रूप में:

अभिकथन A: बड़ी संख्या में तंत्रिका तंतु एक साथ मिलकर एक तंत्रिका बनाते हैं। इन तंत्रिकाओं द्वारा संदेश, शरीर के एक भाग से दूसरे भाग में जाते हैं।
कारण R: एक तंत्र कक्ष, कोशिका पिंडों से बना होता है जिसमें केन्द्रक और एक लंबी संरचना जिसे एक्सन कहा जाता है, पाया जाता है।

उपरोक्त कथन के आलोक में, नीचे दिए गए विकल्पों में से सही उत्तर का चयन कीजिए।

1. A और R दोनों सत्य है और R, A की सही व्याख्या है
2. A और R दोनों सत्य है और R, A की सही व्याख्या नहीं है
3. A सत्य है, लेकिन R असत्य है
4. A असत्य है, लेकिन R सत्य है

Options :

686340171465. 1

686340171466. 2

686340171467. 3

686340171468. 4

Question Number : 68 Question Id : 68634043410 Question Type : MCQ Option Shuffling : No Is Question Mandatory : No Calculator : None Response Time : N.A Think Time : N.A Minimum Instruction Time : 0

Correct Marks : 4 Wrong Marks : 1

Given below are two statements: one is labelled as **Assertion A** and the other is labelled as **Reason R**

Assertion A: Some people wrongly think that ozone is the refreshing air, we breath it at the seaside. It is, in fact a poisonous kind of oxygen.

Reason R: Air pollution was first brought to a sharp focus when air pollution epidemics took place in Los Angeles (1940) and London (1952).

In the light of the above statements, choose the correct answer from the options given below:

1. Both A and R are true and R is the correct explanation of A
2. Both A and R are true and R is not the correct explanation of A
3. A is true but R is false
4. A is false but R is true

Options :

686340171469. 1
686340171470. 2
686340171471. 3
686340171472. 4

Question Number : 68 Question Id : 68634043410 Question Type : MCQ Option Shuffling : No Is Question Mandatory : No Calculator : None Response Time : N.A Think Time : N.A Minimum Instruction Time : 0

Correct Marks : 4 Wrong Marks : 1

नीचे दो कथन दिए गये हैं: एक अभिकथन (**Assertion A**) के रूप में लिखित है तो दूसरा उसके कारण (**Reason R**) के रूप में:

अभिकथन A: कुछ लोग गलत सोचते हैं की समुन्द्र के समीप, स्वास के साथ ली गई ओजोन, ताज़ी हवा है। दरअसल यह एक प्रकार की जहरीली ओक्सीजन है।

कारण R: वायु प्रदुषण ने पहली बार तब ध्यान आकर्षित किया, जब लास एंजलिस (1948) और लंदन (1952) में वायु प्रदूषण महामारी हुई।

उपरोक्त कथन के आलोक में, नीचे दिए गए विकल्पों में से सही उत्तर का चयन कीजिए।

1. A और R दोनों सत्य है और R, A की सही व्याख्या है
2. A और R दोनों सत्य है और R, A की सही व्याख्या नहीं है
3. A सत्य है, लेकिन R असत्य है
4. A असत्य है, लेकिन R सत्य है

Options :

686340171469. 1
686340171470. 2
686340171471. 3
686340171472. 4

Question Number : 69 Question Id : 68634043411 Question Type : MCQ Option Shuffling : No Is Question Mandatory : No Calculator : None Response Time : N.A Think Time : N.A Minimum Instruction Time : 0 Correct Marks : 4 Wrong Marks : 1

Given below are two statements: one is labelled as **Assertion A** and the other is labelled as **Reason R**

Assertion A: Increase in strength of ligaments and tendons and hypertrophy of muscles are the long term effects of exercise.

Reason R: A series of sustained muscle contraction have short term and long term effects on muscular system depending upon the nature and duration of activity.

In the light of the above statements, choose the correct answer from the options given below:

1. Both A and R are true and R is the correct explanation of A
2. Both A and R are true and R is not the correct explanation of A
3. A is true but R is false
4. A is false but R is true

Options :

686340171473. 1
686340171474. 2
686340171475. 3
686340171476. 4

Question Number : 69 Question Id : 68634043411 Question Type : MCQ Option Shuffling : No Is Question Mandatory : No Calculator : None Response Time : N.A Think Time : N.A Minimum Instruction Time : 0 Correct Marks : 4 Wrong Marks : 1

नीचे दो कथन दिए गये हैं: एक अभिकथन (**Assertion A**) के रूप में लिखित है तो दूसरा उसके कारण (**Reason R**) के रूप में:

अभिकथन A: अस्थिबंधो और कंडराओं की शक्ति में वृद्धि तथा मांसपेशियों की अतिवृद्धि, व्यायाम के दूरगामी प्रभाव है।
कारण R: गतिविधि की प्रकृति एवं अवधि के अनुसार मांसपेशियों के संकुचन की एक श्रृंखला के मांसपेशी संस्थान पर लघु कालिक वा दीर्घ कालिक प्रभाव होते हैं।

उपरोक्त कथन के आलोक में, निचे दिए गए विकल्पों में से सही उत्तर का चयन कीजिए।

1. A और R दोनों सत्य है और R, A की सही व्याख्या है
2. A और R दोनों सत्य है और R, A की सही व्याख्या नहीं है
3. A सत्य है, लेकिन R असत्य है
4. A असत्य है, लेकिन R सत्य है

Options :

- 686340171473. 1
- 686340171474. 2
- 686340171475. 3
- 686340171476. 4

Question Number : 70 Question Id : 68634043412 Question Type : MCQ Option Shuffling : No Is Question Mandatory : No Calculator : None Response Time : N.A Think Time : N.A Minimum Instruction Time : 0 Correct Marks : 4 Wrong Marks : 1

Given below are two statements: one is labelled as **Assertion A** and the other is labelled as **Reason R**

Assertion A: Two athletes have same start in 50mts sprint test but Athlete-A takes lead by Athlete-B after first 10mts.

Reason R: Athlete-A has good Acceleration ability. If the object speeds up or travels over a given distance in a shorter amount of time, then there is acceleration.

In the light of the above statements, choose the correct answer from the options given below:

1. Both A and R are true and R is the correct explanation of A
2. Both A and R are true and R is not the correct explanation of A
3. A is true but R is false
4. A is false but R is true

Options :

- 686340171477. 1
- 686340171478. 2
- 686340171479. 3
- 686340171480. 4

Question Number : 70 Question Id : 68634043412 Question Type : MCQ Option Shuffling : No Is Question Mandatory : No Calculator : None Response Time : N.A Think Time : N.A Minimum Instruction Time : 0 Correct Marks : 4 Wrong Marks : 1

नीचे दो कथन दिए गये हैं: एक अभिकथन (**Assertion A**) के रूप में लिखित है तो दूसरा उसके कारण (**Reason R**) के रूप में:

अभिकथन A: 50 मीटर को फर्राटा दौड़ में दो एथलीट एक समान दौड़ प्रारंभ करते हैं परन्तु प्रथम 10 मीटर के पश्चात् एथलीट अ, एथलीट ब से बढ़त हासिल कर लेता है।

कारण R: एथलीट अ में अच्छी त्वरण योग्यता है। यदि कोई वस्तु, दी गई दूरी को तीव्रता से कम समय में तय करती है तो उसे त्वरण कहा जाता है।

उपरोक्त कथन के आलोक में, नीचे दिए गए विकल्पों में से सही उत्तर का चयन कीजिए।

1. A और R दोनों सत्य हैं और R, A की सही व्याख्या है
2. A और R दोनों सत्य है और R, A की सही व्याख्या नहीं है
3. A सत्य है, लेकिन R असत्य है
4. A असत्य है, लेकिन R सत्य है

Options :

686340171477. 1
686340171478. 2
686340171479. 3
686340171480. 4

Question Number : 71 Question Id : 68634043413 Question Type : MCQ Option Shuffling : No Is Question Mandatory : No Calculator : None Response Time : N.A Think Time : N.A Minimum Instruction Time : 0

Correct Marks : 4 Wrong Marks : 1

Given below are two statements: one is labelled as **Assertion A** and the other is labelled as **Reason R**

Assertion A: A researcher expressed the height of samples as tall, short or medium in his research but he can't describe so much about the height of samples.

Reason R: The qualitative data only tells us about something but does not tell the extent of that something.

In the light of the above statements, choose the correct answer from the options given below:

1. Both A and R are true and R is the correct explanation of A
2. Both A and R are true and R is not the correct explanation of A
3. A is true but R is false
4. A is false but R is true

Options :

686340171481. 1
686340171482. 2
686340171483. 3

686340171484. 4

Question Number : 71 Question Id : 68634043413 Question Type : MCQ Option Shuffling : No Is Question Mandatory : No Calculator : None Response Time : N.A Think Time : N.A Minimum Instruction Time : 0

Correct Marks : 4 Wrong Marks : 1

नीचे दो कथन दिए गये हैं: एक अभिकथन (**Assertion A**) के रूप में लिखित है तो दूसरा उसके कारण (**Reason R**) के रूप में:

अभिकथन A: एक अनुसंधानकर्ता ने अपनी रिसर्च में सैम्पल्स की ऊँचाई को लंबा, छोटा और मध्यम के रूप में व्यक्त किया। परन्तु सैम्पल्स की ऊँचाई के बारे में अधिक वर्णन नहीं किया।

कारण R: गुणात्मक आंकड़े, केवल किसी के बारे में बताते हैं, परन्तु उसके विस्तार के बारे में नहीं बताते।

उपरोक्त कथन के आलोक में, निचे दिए गए विकल्पों में से सही उत्तर का चयन कीजिए।

1. A और R दोनों सत्य है और R, A की सही व्याख्या है
2. A और R दोनों सत्य है और R, A की सही व्याख्या नहीं है
3. A सत्य है, लेकिन R असत्य है
4. A असत्य है, लेकिन R सत्य है

Options :

686340171481. 1

686340171482. 2

686340171483. 3

686340171484. 4

Question Number : 72 Question Id : 68634043414 Question Type : MCQ Option Shuffling : No Is Question Mandatory : No Calculator : None Response Time : N.A Think Time : N.A Minimum Instruction Time : 0

Correct Marks : 4 Wrong Marks : 1

Given below are two statements: one is labelled as **Assertion A** and the other is labelled as **Reason R**

Assertion A: Indiana motor fitness test was developed in United State of America in 1943 and some test items were revised in 1944 for the high school boys and girls.

Reason R: Test items of Indiana motor fitness test are pull ups or straddle chin-ups, floor push-ups, vertical jump and standing broad jump.

In the light of the above statements, choose the correct answer from the options given below:

1. Both A and R are true and R is the correct explanation of A
2. Both A and R are true and R is not the correct explanation of A
3. A is true but R is false
4. A is false but R is true

Options :

686340171485. 1
686340171486. 2
686340171487. 3
686340171488. 4

Question Number : 72 Question Id : 68634043414 Question Type : MCQ Option Shuffling : No Is Question Mandatory : No Calculator : None Response Time : N.A Think Time : N.A Minimum Instruction Time : 0

Correct Marks : 4 Wrong Marks : 1

निचे दो कथन दिए गये हैं: एक अभिकथन (**Assertion A**) के रूप में लिखित है तो दूसरा उसके कारण (**Reason R**) के रूप में:

अभिकथन A: सन 1943 में संयुक्त राज्य अमेरिका में 'इंडियाना मोटर - फिटनेस टेस्ट' विकसित किया गया तथा कुछ परीक्षण मदों को सन 1944 में हाई स्कूल लड़कों और लड़कियों के लिए पुनः संशोधित किया गया।

कारण R: इंडियाना मोटर - फिटनेस टेस्ट की परीक्षण मदें हैं- पुल-अप्स अथवा स्ट्रैडल चिन-अप्स, फर्श पर पुश-अप्स, लम्बवत कूद तथा खड़ी कूद।

उपरोक्त कथन के आलोक में, नीचे दिए गए विकल्पों में से सही उत्तर का चयन कीजिए।

1. A और R दोनों सत्य है और R, A की सही व्याख्या है
2. A और R दोनों सत्य है और R, A की सही व्याख्या नहीं है
3. A सत्य है, लेकिन R असत्य है
4. A असत्य है, लेकिन R सत्य है

Options :

686340171485. 1
686340171486. 2
686340171487. 3
686340171488. 4

**Question Number : 73 Question Id : 68634043415 Question Type : MCQ Option Shuffling : No Is Question Mandatory :
No Calculator : None Response Time : N.A Think Time : N.A Minimum Instruction Time : 0
Correct Marks : 4 Wrong Marks : 1**

Arrange the sequential order for conducting the Ancient Olympic Games.

- A. Start of the events
- B. March-past
- C. Sacrifice
- D. Oath
- E. Assembly

Choose the correct answer from the options given below:

- 1. B,E, D, A,C
- 2. E, D, C, B, A
- 3. E, C, D, B, A
- 4. D, A, B, C, E

Options :

686340171489. 1
686340171490. 2
686340171491. 3
686340171492. 4

**Question Number : 73 Question Id : 68634043415 Question Type : MCQ Option Shuffling : No Is Question Mandatory :
No Calculator : None Response Time : N.A Think Time : N.A Minimum Instruction Time : 0
Correct Marks : 4 Wrong Marks : 1**

प्राचीन ओलंपिक खेलों के आयोजन के सन्दर्भ में निम्न प्रोगाम को क्रमानुसार व्यवस्थित कीजिए

- A. प्रतिस्पर्धाओं की शुरुआत
- B. मार्च - पास्ट
- C. बलि
- D. शपथ-ग्रहण
- E. सभा

नीचे दिए गए विकल्पों में से सही उत्तर का चयन कीजिए:

- 1. B,E, D, A,C
- 2. E, D, C, B, A
- 3. E, C, D, B, A
- 4. D, A, B, C, E

Options :

- 686340171489. 1
- 686340171490. 2
- 686340171491. 3
- 686340171492. 4

Question Number : 74 Question Id : 68634043416 Question Type : MCQ Option Shuffling : No Is Question Mandatory : No Calculator : None Response Time : N.A Think Time : N.A Minimum Instruction Time : 0

Correct Marks : 4 Wrong Marks : 1

With reference to the OCEAN (Big five Theory of personality), arrange the below given behavioural traits in a sequential order.

- A. Anxious, nervous
- B. Friendly, cooperative
- C. Active, Sociable
- D. Responsible Well organised
- E. Creative, Imaginative

Choose the correct answer from the options given below:

- 1. B, C, A, D, E
- 2. E, A, D, C, B
- 3. C, D, A, B, E
- 4. E, D, C, B, A

Options :

- 686340171493. 1
- 686340171494. 2
- 686340171495. 3
- 686340171496. 4

Question Number : 74 Question Id : 68634043416 Question Type : MCQ Option Shuffling : No Is Question Mandatory : No Calculator : None Response Time : N.A Think Time : N.A Minimum Instruction Time : 0 Correct Marks : 4 Wrong Marks : 1

ओ. (O) सी. (C) ई. (E) ए. (A) एन. (N)- (व्यक्तित्व की पाँच विशेषताओं के सिद्धान्त) के सन्दर्भ में नीचे दी गई व्यावहारिक विशेषताओं को क्रमानुसार सूचीबद्ध कीजिए।

- A. चिंतित, घबराया हुआ
- B. मित्रवत, सहायक
- C. सक्रिय, मिलनसार
- D. जिम्मेदार, सुव्यवस्थित
- E. रचनात्मक, कल्पनाशील

नीचे दिए गए विकल्पों में से सही उत्तर का चयन कीजिए:

- 1. B, C, A, D, E
- 2. E, A, D, C, B
- 3. C, D, A, B, E
- 4. E, D, C, B, A

Options :

- 686340171493. 1
- 686340171494. 2
- 686340171495. 3
- 686340171496. 4

Question Number : 75 Question Id : 68634043417 Question Type : MCQ Option Shuffling : No Is Question Mandatory : No Calculator : None Response Time : N.A Think Time : N.A Minimum Instruction Time : 0 Correct Marks : 4 Wrong Marks : 1

Arrange the following traditional games in a sequential order from North to South India.

- A. Malkhamb
- B. Gatka
- C. Jallikattu
- D. Kambala
- E. Kalaripayattu

Choose the correct answer from the options given below:

- 1. A, B, C, D, E
- 2. B, D, A, C, E
- 3. C, E, B, A, D
- 4. B, A, D, E, C

Options :

686340171497. 1
686340171498. 2
686340171499. 3
686340171500. 4

**Question Number : 75 Question Id : 68634043417 Question Type : MCQ Option Shuffling : No Is Question Mandatory :
No Calculator : None Response Time : N.A Think Time : N.A Minimum Instruction Time : 0
Correct Marks : 4 Wrong Marks : 1**

निम्न पारंपरिक खेलों को भारत की उत्तर दिशा से दक्षिण दिशा की ओर, क्रमानुसार व्यवस्थित कीजिए।

- A. मलखम्ब
- B. गटका
- C. जल्लिकुट्टू
- D. कम्बाला
- E. कलारीपयत्तू

नीचे दिए गए विकल्पों में से सही उत्तर का चयन कीजिए:

- 1. A, B, C, D, E
- 2. B, D, A, C, E
- 3. C, E, B, A, D
- 4. B, A, D, E, C

Options :

686340171497. 1
686340171498. 2
686340171499. 3
686340171500. 4

**Question Number : 76 Question Id : 68634043418 Question Type : MCQ Option Shuffling : No Is Question Mandatory :
No Calculator : None Response Time : N.A Think Time : N.A Minimum Instruction Time : 0
Correct Marks : 4 Wrong Marks : 1**

Arrange the following muscles in a sequential order from upper to lower body.

- A. Gluteus Medius
- B. Rectus Femoris
- C. Gastro Enemius
- D. Sterno Cleido Mastoid
- E. Rectus Abdominus

Choose the correct answer from the options given below:

- 1. A, B, C, D, E
- 2. B, C, D, E, A
- 3. C, D, E, A, B
- 4. D, E, A, B, C

Options :

- 686340171501. 1
- 686340171502. 2
- 686340171503. 3
- 686340171504. 4

Question Number : 76 Question Id : 68634043418 Question Type : MCQ Option Shuffling : No Is Question Mandatory : No Calculator : None Response Time : N.A Think Time : N.A Minimum Instruction Time : 0

Correct Marks : 4 Wrong Marks : 1

निम्न माँसपेशियों को शरीर - अनुसार ऊपर से नीचे के क्रम में व्यवस्थित कीजिए।

- A. ग्लूटस मिडियस
- B. रेक्टस फेमोरिस
- C. गेस्ट्रो इनेमियस
- D. स्टेर्नो-कलिडो-मस्टॉयड
- E. रेक्टस एबडोमिनस

नीचे दिए गए विकल्पों में से सही उत्तर का चयन कीजिए:

- 1. A, B, C, D, E
- 2. B, C, D, E, A
- 3. C, D, E, A, B
- 4. D, E, A, B, C

Options :

- 686340171501. 1
- 686340171502. 2
- 686340171503. 3
- 686340171504. 4

Question Number : 77 Question Id : 68634043419 Question Type : MCQ Option Shuffling : No Is Question Mandatory : No Calculator : None Response Time : N.A Think Time : N.A Minimum Instruction Time : 0 Correct Marks : 4 Wrong Marks : 1

In the case of drowning, if there is a breathing problem then what will be the sequence of first Aid steps?

- A. Kneel at the side of the patient who is lying in prone position.
- B. Press on the lower side of the back with both hands with all your strength.
- C. Repeat these movements 16 to 17 times in a minute until the patient start breathing.
- D. After every two seconds ' stop ' to allow air to rush into the lungs.

Choose the correct answer from the options given below:

- 1. A-B-C-D
- 2. A-C-B-D
- 3. A-B-D-C
- 4. A-C-D-B

Options :

- 686340171505. 1
- 686340171506. 2
- 686340171507. 3
- 686340171508. 4

Question Number : 77 Question Id : 68634043419 Question Type : MCQ Option Shuffling : No Is Question Mandatory : No Calculator : None Response Time : N.A Think Time : N.A Minimum Instruction Time : 0 Correct Marks : 4 Wrong Marks : 1

डूबने की स्थिति में, श्वास-समस्या होने पर प्राथमिक सहायता के विभिन्न चरणों का क्रम क्या होगा?

- A. पेट के बल लेटे हुए रोगी के बगल में घुटने के बल बैठना
- B. अपनी पूरी ताकत से दोनों हाथों से पीठ के निचले हिस्से पर दबाव डालें।
- C. इस क्रिया को एक मिनट में 16 से 17 बार दोहराएँ जब तक कि मरीज श्वास लेना प्रारंभ ना कर दे।
- D. प्रत्येक दो सेकंड के बाद रुकें ताकि हवा फेफड़ों में जा सके।

नीचे दिए गए विकल्पों में से सही उत्तर का चयन कीजिए:

- 1. A-B-C-D
- 2. A-C-B-D
- 3. A-B-D-C
- 4. A-C-D-B

Options :

- 686340171505. 1
- 686340171506. 2
- 686340171507. 3
- 686340171508. 4

Question Number : 78 Question Id : 68634043420 Question Type : MCQ Option Shuffling : No Is Question Mandatory : No Calculator : None Response Time : N.A Think Time : N.A Minimum Instruction Time : 0 Correct Marks : 4 Wrong Marks : 1

According to number of playing members of a team (excluding stand by players) arrange the following games in descending order.

- A. Volley Ball
- B. Foot Ball
- C. Kho-Kho
- D. Kabaddi
- E. Basket Ball

Choose the correct answer from the options given below:

- 1. B, C, D, A, E
- 2. A, C, D, B, E
- 3. D, E, C, A, B
- 4. C, B, A, E, D

Options :

- 686340171509. 1
- 686340171510. 2
- 686340171511. 3
- 686340171512. 4

Question Number : 78 Question Id : 68634043420 Question Type : MCQ Option Shuffling : No Is Question Mandatory : No Calculator : None Response Time : N.A Think Time : N.A Minimum Instruction Time : 0 Correct Marks : 4 Wrong Marks : 1

एक टीम में खेलने वाले खिलाड़ियों की संख्या (बाहर बैठे हुए खिलाड़ियों को छोड़कर) के आधार पर निम्न गेमों को घटते हुए क्रम में व्यवस्थित कीजिए:

- A. वॉली बॉल
- B. फुट बॉल
- C. खो-खो
- D. कबड्डी
- E. बास्केट बॉल

नीचे दिए गए विकल्पों में से सही उत्तर का चयन कीजिए:

- 1. B, C, D, A, E
- 2. A, C, D, B, E
- 3. D, E, C, A, B
- 4. C, B, A, E, D

Options :

- 686340171509. 1

686340171510. 2
686340171511. 3
686340171512. 4

**Question Number : 79 Question Id : 68634043421 Question Type : MCQ Option Shuffling : No Is Question Mandatory :
No Calculator : None Response Time : N.A Think Time : N.A Minimum Instruction Time : 0
Correct Marks : 4 Wrong Marks : 1**

With reference to the establishment year of the Institutes / Associations, arrange them in chronological order.

- A. National council for teacher education
- B. Indian Olympic Association
- C. National service scheme
- D. National Cadet corps
- E. Laxmi Bai National institute of physical education, Gwalior.

Choose the correct answer from the options given below:

- 1. B, E, A, C, D
- 2. A, C, D, E, B
- 3. B, D, E, C, A
- 4. C, D, B, A, E

Options :

686340171513. 1
686340171514. 2
686340171515. 3
686340171516. 4

**Question Number : 79 Question Id : 68634043421 Question Type : MCQ Option Shuffling : No Is Question Mandatory :
No Calculator : None Response Time : N.A Think Time : N.A Minimum Instruction Time : 0
Correct Marks : 4 Wrong Marks : 1**

स्थापना वर्ष के सन्दर्भ में निम्न इंस्टीट्यूट/संगठनों को कालक्रमानुसार व्यवस्थित कीजिए।

- A. राष्ट्रीय शिक्षक शिक्षा परिषद
- B. राष्ट्रीय ओलंपिक संघ
- C. राष्ट्रीय सेवा योजना
- D. राष्ट्रीय कैडेट कोर
- E. लक्ष्मी बाई राष्ट्रीय शारीरिक शिक्षा संस्थान, ग्वालियर

नीचे दिए गए विकल्पों में से सही उत्तर का चयन कीजिए:

- 1. B, E, A, C, D
- 2. A, C, D, E, B
- 3. B, D, E, C, A
- 4. C, D, B, A, E

Options :

- 686340171513. 1
- 686340171514. 2
- 686340171515. 3
- 686340171516. 4

Question Number : 80 Question Id : 68634043422 Question Type : MCQ Option Shuffling : No Is Question Mandatory : No Calculator : None Response Time : N.A Think Time : N.A Minimum Instruction Time : 0 Correct Marks : 4 Wrong Marks : 1

Given below are two statements:

Statement I: In Athens, new born was thoroughly examined by the state authorities and if found a weakling, It was exposed to Mount Tygris to become food to beasts and birds.

Statement II: Ethics, Aesthetics, Mathematics and Athletics comprised complete education in Athens.

In the light of the above statements, choose the correct answer from the options given below:

- 1. Both Statement I and Statement II are true
- 2. Both Statement I and Statement II are false
- 3. Statement I is true and Statement II is false
- 4. Statement I is false but Statement II is true

Options :

- 686340171517. 1
- 686340171518. 2
- 686340171519. 3
- 686340171520. 4

Question Number : 80 Question Id : 68634043422 Question Type : MCQ Option Shuffling : No Is Question Mandatory : No Calculator : None Response Time : N.A Think Time : N.A Minimum Instruction Time : 0

Correct Marks : 4 Wrong Marks : 1

नीचे दो कथन दिए गए हैं:

कथन I: एथेन्स में नवजात शिशुओं का राज्य अधिकारियों द्वारा भली प्रकार निरीक्षण किया जाता था और कमजोर पाए जाने पर उन्हें जंगली जानवरों और पक्षियों के आहार के लिए माउंट टाईग्रीस पर डाल दिया जाता था।

कथन II: नैतिकता, सौंदर्यशास्त्र, गणित और एथेलेटिक्स एथेन्स में संपूर्ण शिक्षा में सम्मिलित थे।

उपरोक्त कथन के आलोक में, निचे दिए गए विकल्पों में से सबसे उपयुक्त उत्तर का चयन कीजिए:

1. कथन I और II दोनों सही हैं
2. कथन I और II दोनों गलत हैं
3. कथन I सही है लेकिन कथन II गलत है
4. कथन I गलत है लेकिन कथन II सही है

Options :

686340171517. 1

686340171518. 2

686340171519. 3

686340171520. 4

Question Number : 81 Question Id : 68634043423 Question Type : MCQ Option Shuffling : No Is Question Mandatory : No Calculator : None Response Time : N.A Think Time : N.A Minimum Instruction Time : 0

Correct Marks : 4 Wrong Marks : 1

Given below are two statements:

Statement I: Theory of faculty was discarded on the basis that a faculty (Thinking, memory perception) can not be considered as a whole and each faculty may be having several divisions to form a unit.

Statement II: The generalisation theory holds that transfer of training takes place in the form of ideals.

In the light of the above statements, choose the correct answer from the options given below:

1. Both Statement I and Statement II are true
2. Both Statement I and Statement II are false
3. Statement I is true and Statement II is false
4. Statement I is false but Statement II is true

Options :

686340171521. 1

686340171522. 2

686340171523. 3

686340171524. 4

Question Number : 81 Question Id : 68634043423 Question Type : MCQ Option Shuffling : No Is Question Mandatory : No Calculator : None Response Time : N.A Think Time : N.A Minimum Instruction Time : 0 Correct Marks : 4 Wrong Marks : 1

नीचे दो कथन दिए गए हैं:

कथन I: फैकेल्टी के सिद्धांत को इस आधार पर खारिज कर दिया गया था, कि एक फैकेल्टी को संपूर्ण नहीं माना जा सकता है और प्रत्येक फैकेल्टी के पास एक इकाई बनाने के लिए कई डिवीजन हो सकते हैं।

कथन II: सामान्यवाद सिद्धांत मानता है कि प्रशिक्षण का हस्तांतरण, आदर्शों के रूप में होता है।

उपरोक्त कथन के आलोक में, नीचे दिए गए विकल्पों में से सबसे उपयुक्त उत्तर का चयन कीजिए:

1. कथन I और II दोनों सत्य हैं
2. कथन I और II दोनों असत्य हैं
3. कथन I सत्य है लेकिन कथन II असत्य है
4. कथन I असत्य है लेकिन कथन II सत्य है

Options :

- 686340171521. 1
- 686340171522. 2
- 686340171523. 3
- 686340171524. 4

Question Number : 82 Question Id : 68634043424 Question Type : MCQ Option Shuffling : No Is Question Mandatory : No Calculator : None Response Time : N.A Think Time : N.A Minimum Instruction Time : 0 Correct Marks : 4 Wrong Marks : 1

Given below are two statements:

Statement I: Arrangement of fibers differs in various muscles. In some muscles the fibers are parallel to the long axis of the muscles, in some they have narrow attachment.

Statement II: Skeletal muscles always act in groups rather than singly.

In the light of the above statements, choose the correct answer from the options given below:

1. Both Statement I and Statement II are true
2. Both Statement I and Statement II are false
3. Statement I is true and Statement II is false
4. Statement I is false but Statement II is true

Options :

- 686340171525. 1

686340171526. 2

686340171527. 3

686340171528. 4

Question Number : 82 Question Id : 68634043424 Question Type : MCQ Option Shuffling : No Is Question Mandatory : No Calculator : None Response Time : N.A Think Time : N.A Minimum Instruction Time : 0

Correct Marks : 4 Wrong Marks : 1

नीचे दो कथन दिए गए हैं:

कथन I: विभिन्न मांसपेशियों में तंतुओं की व्यवस्था भिन्न होती है। कुछ मांसपेशियों में तंतु मांसपेशियों की लम्बी धुरी के समान्तर होते हैं, कुछ में उनका संकीर्ण अटैचमेंट होता है।

कथन II: कंकाल की मांसपेशियों हमेशा अकेले की बजाय समूह में कार्य करती हैं।

उपरोक्त कथन के आलोक में, नीचे दिए गए विकल्पों में से सबसे उपयुक्त उत्तर का चयन कीजिए:

1. कथन I और II दोनों सत्य हैं
2. कथन I और II दोनों असत्य हैं
3. कथन I सत्य है लेकिन कथन II असत्य है
4. कथन I असत्य है लेकिन कथन II सत्य है

Options :

686340171525. 1

686340171526. 2

686340171527. 3

686340171528. 4

Question Number : 83 Question Id : 68634043425 Question Type : MCQ Option Shuffling : No Is Question Mandatory : No Calculator : None Response Time : N.A Think Time : N.A Minimum Instruction Time : 0

Correct Marks : 4 Wrong Marks : 1

Given below are two statements:

Statement I: Hepatitis 'B' is a potentially serious form of liver inflammation due to infection by Hepatitis 'B' Virus.

Statement II: Hepatitis 'B' vaccine's outer layer is covered by protein and Hepatitis 'B' surface Antigene.

In the light of the above statements, choose the correct answer from the options given below:

1. Both Statement I and Statement II are true
2. Both Statement I and Statement II are false
3. Statement I is true and Statement II is false
4. Statement I is false but Statement II is true

Options :

686340171529. 1
686340171530. 2
686340171531. 3
686340171532. 4

Question Number : 83 Question Id : 68634043425 Question Type : MCQ Option Shuffling : No Is Question Mandatory : No Calculator : None Response Time : N.A Think Time : N.A Minimum Instruction Time : 0 Correct Marks : 4 Wrong Marks : 1

नीचे दो कथन दिए गए हैं:

कथन I: हेपेटाइटिस 'बी' वायरस के संक्रमण के कारण यकृत की सूजन, संभावित रूप से हेपेटाइटिस 'बी' का एक गंभीर रूप है।

कथन II: हेपेटाइटिस 'बी' वैक्सीन का बाह्य आवरण प्रोटीन और सतही एंटीजेन से ढका रहता है।

उपरोक्त कथन के आलोक में, नीचे दिए गए विकल्पों में से सबसे उपयुक्त उत्तर का चयन कीजिए:

1. कथन I और II दोनों सत्य हैं
2. कथन I और II दोनों असत्य हैं
3. कथन I सत्य है लेकिन कथन II असत्य है
4. कथन I असत्य है लेकिन कथन II सत्य है

Options :

686340171529. 1
686340171530. 2
686340171531. 3
686340171532. 4

Question Number : 84 Question Id : 68634043426 Question Type : MCQ Option Shuffling : No Is Question Mandatory : No Calculator : None Response Time : N.A Think Time : N.A Minimum Instruction Time : 0 Correct Marks : 4 Wrong Marks : 1

Given below are two statements:

Statement I: If the direction of acting force is known, stability can be increased by moving the line of gravity as close as possible to the edge of the base where the force is expected.

Statement II: Body weight is indirectly proportional to stability.

In the light of the above statements, choose the correct answer from the options given below:

1. Both Statement I and Statement II are true
2. Both Statement I and Statement II are false
3. Statement I is true and Statement II is false
4. Statement I is false but Statement II is true

Options :

- 686340171533. 1
- 686340171534. 2
- 686340171535. 3
- 686340171536. 4

Question Number : 84 Question Id : 68634043426 Question Type : MCQ Option Shuffling : No Is Question Mandatory : No Calculator : None Response Time : N.A Think Time : N.A Minimum Instruction Time : 0 Correct Marks : 4 Wrong Marks : 1

नीचे दो कथन दिए गए हैं:

कथन I: यदि क्रियाशील बल की दिशा ज्ञात है, तो गुरुत्वाकर्षण रेखा में जितना संभव हो सके आधार के किनारे के करीब जा कर स्थिरता को बढ़ाया जा सकता है, जहाँ बल की अपेक्षा की जाती है।

कथन II: शरीर का वजन अप्रत्यक्ष रूप से स्थिरता के समानुपाती होता है।

उपरोक्त कथन के आलोक में, नीचे दिए गए विकल्पों में से सबसे उपयुक्त उत्तर का चयन कीजिए:

1. कथन I और II दोनों सत्य हैं
2. कथन I और II दोनों असत्य हैं
3. कथन I सत्य है लेकिन कथन II असत्य है
4. कथन I असत्य है लेकिन कथन II सत्य है

Options :

- 686340171533. 1
- 686340171534. 2
- 686340171535. 3
- 686340171536. 4

Question Number : 85 Question Id : 68634043427 Question Type : MCQ Option Shuffling : No Is Question Mandatory : No Calculator : None Response Time : N.A Think Time : N.A Minimum Instruction Time : 0 Correct Marks : 4 Wrong Marks : 1

Given below are two statements:

Statement I: An alternative casual hypothesis is descriptive hypothesis, which reference causation but assumes the different characteristics of behaviour.

Statement II: The Null hypothesis is the prediction that there is no difference between or among the group.

In the light of the above statements, choose the correct answer from the options given below:

1. Both Statement I and Statement II are true
2. Both Statement I and Statement II are false
3. Statement I is true and Statement II is false
4. Statement I is false but Statement II is true

Options :

686340171537. 1
686340171538. 2
686340171539. 3
686340171540. 4

Question Number : 85 Question Id : 68634043427 Question Type : MCQ Option Shuffling : No Is Question Mandatory : No Calculator : None Response Time : N.A Think Time : N.A Minimum Instruction Time : 0 Correct Marks : 4 Wrong Marks : 1

नीचे दो कथन दिए गए हैं:

कथन I: एक वैकल्पिक आकस्मिक परिकल्पना, वर्णनात्मक परिकल्पना है, जो कार्य-कारण को संदर्भित करती है लेकिन व्यवहार की विभिन्न विशेषताओं को मानती है।

कथन II: शून्य परिकल्पना यह भविष्यवाणी है कि समूह के बीच में कोई अंतर नहीं है।

उपरोक्त कथन के आलोक में, नीचे दिए गए विकल्पों में से सबसे उपयुक्त उत्तर का चयन कीजिए:

1. कथन I और II दोनों सत्य हैं
2. कथन I और II दोनों असत्य हैं
3. कथन I सत्य है लेकिन कथन II असत्य है
4. कथन I असत्य है लेकिन कथन II सत्य है

Options :

686340171537. 1
686340171538. 2
686340171539. 3
686340171540. 4

**Question Number : 86 Question Id : 68634043428 Question Type : MCQ Option Shuffling : No Is Question Mandatory :
No Calculator : None Response Time : N.A Think Time : N.A Minimum Instruction Time : 0
Correct Marks : 4 Wrong Marks : 1**

Given below are two statements:

Statement I: Comprehensiveness of a test means it should be vast enough to assess maximum aspects of one's ability. If a test is comprehensive its means it will be more stable and reliable.

Statement II: If a test is administered by two different persons to the same student under same condition and the results remain similar, test will be called valid.

In the light of the above statements, choose the correct answer from the options given below:

1. Both Statement I and Statement II are true
2. Both Statement I and Statement II are false
3. Statement I is true and Statement II is false
4. Statement I is false but Statement II is true

Options :

686340171541. 1
686340171542. 2
686340171543. 3
686340171544. 4

**Question Number : 86 Question Id : 68634043428 Question Type : MCQ Option Shuffling : No Is Question Mandatory :
No Calculator : None Response Time : N.A Think Time : N.A Minimum Instruction Time : 0
Correct Marks : 4 Wrong Marks : 1**

नीचे दो कथन दिए गए हैं:

कथन I: एक परीक्षण की व्यापकता का अर्थ है कि किसी की क्षमता के अधिकतम पहलुओं का आकलन करने के लिए यह पर्याप्त है। यदि कोई परीक्षण व्यापक है तो इसका मतलब है कि यह अधिक स्थिर और विश्वसनीय होगा।

कथन II: यदि कोई परीक्षण दो अलग-अलग व्यक्तियों द्वारा एक ही स्थिति में एक ही छात्र पर प्रसारित किया जाता है और परिणाम समान रहते हैं तो परीक्षण को वैध कहा जाएगा।

उपरोक्त कथन के आलोक में, नीचे दिए गए विकल्पों में से सबसे उपयुक्त उत्तर का चयन कीजिए:

1. कथन I और II दोनों सत्य हैं
2. कथन I और II दोनों असत्य हैं
3. कथन I सत्य है लेकिन कथन II असत्य है
4. कथन I असत्य है लेकिन कथन II सत्य है

Options :

686340171541. 1
686340171542. 2
686340171543. 3
686340171544. 4

Question Number : 87 Question Id : 68634043429 Question Type : MCQ Option Shuffling : No Is Question Mandatory : No Calculator : None Response Time : N.A Think Time : N.A Minimum Instruction Time : 0

Correct Marks : 4 Wrong Marks : 1

The English word 'Culture' is derived from the latin term 'Cult or Cultus' which means:

- A. Tilling
- B. Cultivating
- C. Root
- D. Refining and worship

Choose the most appropriate answer from the options given below:

1. B and D only
2. A and B only
3. A, B and C only
4. A, B and D only

Options :

686340171545. 1
686340171546. 2
686340171547. 3
686340171548. 4

Question Number : 87 Question Id : 68634043429 Question Type : MCQ Option Shuffling : No Is Question Mandatory : No Calculator : None Response Time : N.A Think Time : N.A Minimum Instruction Time : 0

Correct Marks : 4 Wrong Marks : 1

अंग्रेजी के शब्द 'कल्चर' (संस्कृति) को लेटिन भाषा के शब्द 'कल्ट या कल्ट्स' से लिया गया है जिसका अर्थ है:

- A. हल चलाना
- B. खेती करना
- C. जड़ें
- D. परिष्कृत व पूजाकरना

नीचे दिए गए विकल्पों में से सबसे उपयुक्त उत्तर का चयन कीजिए:

- 1. केवल B और D
- 2. केवल A और B
- 3. केवल A, B और C
- 4. केवल A, B और D

Options :

- 686340171545. 1
- 686340171546. 2
- 686340171547. 3
- 686340171548. 4

Question Number : 88 Question Id : 68634043430 Question Type : MCQ Option Shuffling : No Is Question Mandatory : No Calculator : None Response Time : N.A Think Time : N.A Minimum Instruction Time : 0

Correct Marks : 4 Wrong Marks : 1

With specific reference to exhalation during respiration process, in human body, which of the following statements are NOT true?

- A. It occurs when the size of the thoracic cavity decreases and the pressure outside increases.
- B. External inter costal muscles relax and the intra costal muscles contract.
- C. The volume of thoracic cavity increases and the air pressure decreases.
- D. Contraction of diaphragm further increases the size of thoracic cavity.
- E. The ribs are pulled inwards and the size of the thoracic cavity is reduced.

Choose the most appropriate answer from the options given below:

- 1. A, B, E only
- 2. C and D only
- 3. B, C and D only
- 4. C and E only

Options :

- 686340171549. 1
- 686340171550. 2
- 686340171551. 3
- 686340171552. 4

Question Number : 88 Question Id : 68634043430 Question Type : MCQ Option Shuffling : No Is Question Mandatory : No Calculator : None Response Time : N.A Think Time : N.A Minimum Instruction Time : 0 Correct Marks : 4 Wrong Marks : 1

मानव शरीर में श्वसन प्रक्रिया के दौरान साँस छोड़ने की क्रियाविधि के विशिष्ट संदर्भ में, निम्नलिखित में से कौन सा कथन सत्य नहीं है?

- A. यह तब होता है, जब वक्षीय गुहा का आकार कम हो जाता है और बाहर का दबाव बढ़ जाता है।
- B. बाह्य इंटरकोस्टल मांसपेशियाँ शिथिल हो जाती हैं और अंतः इंटरकोस्टल मांसपेशियाँ सिकुड़ जाती हैं।
- C. वक्षगुहा का आयतन बढ़ जाता है और वायु का दबाव कम हो जाता है।
- D. डायफ्राम के संकुचन से वक्ष गुहा का आकार और बढ़ जाता है।
- E. पसलियाँ अंदर की ओर खिंच जाती हैं और वक्ष गुहा का आकार कम हो जाता है।

नीचे दिए गए विकल्पों में से सबसे उपयुक्त उत्तर का चयन कीजिए:

- 1. केवल A, C
- 2. केवल D, E
- 3. केवल B, D
- 4. केवल A, E

Options :

- 686340171549. 1
- 686340171550. 2
- 686340171551. 3
- 686340171552. 4

Question Number : 89 Question Id : 68634043431 Question Type : MCQ Option Shuffling : No Is Question Mandatory : No Calculator : None Response Time : N.A Think Time : N.A Minimum Instruction Time : 0 Correct Marks : 4 Wrong Marks : 1

Which of the following statements are not true with reference to the environmental factors and sports performance.

- A. Temperature of the environment approaches the skin and deep body.
- B. Performance of an athlete in high altitude is not affected.
- C. It is important to achieve thermal acclimatization prior to the competition.
- D. Humidity and air velocity not directly affect the sport performance of an athlete.

Choose the most appropriate answer from the options given below:

- 1. A & D only
- 2. C & B only
- 3. B & D only
- 4. B & C only

Options :

686340171553. 1
686340171554. 2
686340171555. 3
686340171556. 4

**Question Number : 89 Question Id : 68634043431 Question Type : MCQ Option Shuffling : No Is Question Mandatory :
No Calculator : None Response Time : N.A Think Time : N.A Minimum Instruction Time : 0
Correct Marks : 4 Wrong Marks : 1**

खेल प्रदर्शन व वातावरण कारकों के सन्दर्भ में निम्नलिखित कथनों में से कौन सा सत्य नहीं है।

- A. वातावरण का तापमान त्वचा के सम्पर्क में आता है तथा शरीर के अंदर जाता है।
- B. अधिक ऊंचाई पर खिलाड़ी का प्रदर्शन प्रभावित नहीं होता है।
- C. प्रतियोगिता से पहले थर्मल अनुकूल को प्राप्त करना आवश्यक है।
- D. वायु वेग तथा आर्द्रता खिलाड़ी के प्रदर्शन को सीधे रूप से प्रभावित नहीं करती है।

नीचे दिए गए विकल्पों में से सबसे उपयुक्त उत्तर का चयन कीजिए:

- 1. केवल A व D
- 2. केवल C व B
- 3. केवल B व D
- 4. केवल B व C

Options :

686340171553. 1
686340171554. 2
686340171555. 3
686340171556. 4

**Question Number : 90 Question Id : 68634043432 Question Type : MCQ Option Shuffling : No Is Question Mandatory :
No Calculator : None Response Time : N.A Think Time : N.A Minimum Instruction Time : 0
Correct Marks : 4 Wrong Marks : 1**

Which of the following statements are true with reference to the formative and summative evaluation.

- A. Formative assessment is used to know the weakness and strength of the students.
- B. Diagnostic Evaluation is a part of summative evaluation and mostly used to enhance the performance.
- C. Objective evaluation is used for formative as well as for summative evaluation.
- D. Self-evaluation is a part of summative evaluation in which we can select a player.

Choose the most appropriate answer from the options given below:

- 1. B & D only
- 2. A & C only
- 3. A & B only
- 4. B & C only

Options :

- 686340171557. 1
- 686340171558. 2
- 686340171559. 3
- 686340171560. 4

Question Number : 90 Question Id : 68634043432 Question Type : MCQ Option Shuffling : No Is Question Mandatory : No Calculator : None Response Time : N.A Think Time : N.A Minimum Instruction Time : 0

Correct Marks : 4 Wrong Marks : 1

योगात्मक व रचनात्मक मूल्यांकन के संदर्भ निम्लिखित कथनों में से कौन सा सत्य है।

- A. रचनात्मक मूल्यांकन का प्रयोग बच्चों की कमजोरी वा सामर्थ्य को जानने के लिए किया जाता है।
- B. नैदानिक मूल्यांकन, योगात्मक मूल्यांकन का हिस्सा है तथा इसका प्रयोग प्रदर्शन को बढ़ाने के लिए किया जाता है।
- C. वस्तुनिष्ठ मूल्यांकन का प्रयोग रचनात्मक व योगात्मक मूल्यांकन के लिए किया जाता है।
- D. स्वयं का मूल्यांकन योगात्मक मूल्यांकन का एक भाग है जिसमें हम एक खिलाड़ी का चुनाव कर सकते हैं।

नीचे दिए गए विकल्पों में से सबसे उपयुक्त उत्तर का चयन कीजिए:

- 1. केवल B व D
- 2. केवल A व C
- 3. केवल A व B
- 4. केवल B व C

Options :

- 686340171557. 1
- 686340171558. 2
- 686340171559. 3
- 686340171560. 4

Question Number : 91 Question Id : 68634043433 Question Type : MCQ Option Shuffling : No Is Question Mandatory : No Calculator : None Response Time : N.A Think Time : N.A Minimum Instruction Time : 0

Correct Marks : 4 Wrong Marks : 1

Which of the following are the objectives of Extra murals competitions?

- A. To Promote social, cultural and economic development through sports.
- B. To achieve high performance at highest level of the tournament.
- C. To focus on fitness, wellness and health aspects of children.
- D. To develop feeling of integration with other institutions.

Choose the most appropriate answer from the options given below:

- 1. A, B, D only
- 2. A, B, C only
- 3. B, C, D only
- 4. A, C, D only

Options :

- 686340171561. 1
- 686340171562. 2
- 686340171563. 3
- 686340171564. 4

Question Number : 91 Question Id : 68634043433 Question Type : MCQ Option Shuffling : No Is Question Mandatory : No Calculator : None Response Time : N.A Think Time : N.A Minimum Instruction Time : 0 Correct Marks : 4 Wrong Marks : 1

निम्नलिखित में से बाह्य प्राचीर प्रतियोगिता के उद्देश्य कौन कौन से हैं।

- A. खेलों के द्वारा सामाजिक, संस्कृतिक व वित्तीय विकास करना
- B. प्रतियोगिता के चरम पर उच्च प्रदर्शन को पाना
- C. बच्चों की पुष्टि, सुयोग्यता व स्वास्थ्य पहलुओं पर केन्द्रित होना।
- D. दूसरे संस्थानों के साथ एकीकरण की भावना विकसित करना।

नीचे दिए गए विकल्पों में से सबसे उपयुक्त उत्तर का चयन कीजिए:

- 1. केवल A, B, D
- 2. केवल A, B, C
- 3. केवल B, C, D
- 4. केवल A, C, D

Options :

- 686340171561. 1
- 686340171562. 2
- 686340171563. 3
- 686340171564. 4

Question Number : 92 Question Id : 68634043434 Question Type : MCQ Option Shuffling : No Is Question Mandatory : No Calculator : None Response Time : N.A Think Time : N.A Minimum Instruction Time : 0

Correct Marks : 4 Wrong Marks : 1

Which of the following are the basic rules while performing yogasanas?

- A. Yoga should be practiced empty stomach.
- B. Relax for 10 seconds at least after each asana.
- C. Relax till 40 breath counts.
- D. Take sufficient fluid i.e. water, Tea or coffee before practicing yogasana.

Choose the most appropriate answer from the options given below:

- 1. A & C only
- 2. B & D only
- 3. A & B only
- 4. C & D only

Options :

- 686340171565. 1
- 686340171566. 2
- 686340171567. 3
- 686340171568. 4

Question Number : 92 Question Id : 68634043434 Question Type : MCQ Option Shuffling : No Is Question Mandatory : No Calculator : None Response Time : N.A Think Time : N.A Minimum Instruction Time : 0

Correct Marks : 4 Wrong Marks : 1

निम्नलिखित में से योगासन करने के आधार भूत नियम कौन से है।

- A. योगाभ्यास खाली पेट करना चाहिए
- B. प्रत्येक आसन के बाद कम से कम 10 सेकंड का विश्राम कीजिए
- C. 40 साँसों तक आराम करें
- D. योगाभ्यास करने से पहले पर्याप्त मात्रा में तरल पदार्थ जैसे पान, चाय या काफी आदि लें।

नीचे दिए गए विकल्पों में से सबसे उपयुक्त उत्तर का चयन कीजिए:

- 1. केवल A व C
- 2. केवल B व D
- 3. केवल A व B
- 4. केवल C व D

Options :

- 686340171565. 1
- 686340171566. 2
- 686340171567. 3
- 686340171568. 4

Question Number : 93 Question Id : 68634043435 Question Type : MCQ Option Shuffling : No Is Question Mandatory : No Calculator : None Response Time : N.A Think Time : N.A Minimum Instruction Time : 0 Correct Marks : 4 Wrong Marks : 1

For promotion of sports and improvement of standards in the country- Sports Authority of India was established. Choose from the following options which are not the objectives of SAI.

- A. To enforce all rules and regulations of IOC.
- B. Develop and manage sports infrastructures.
- C. Encourage research and development in sports and games.
- D. To provide technical and other assistance.
- E. To maintain the highest ideals of amateurism.

Choose the most appropriate answer from the options given below:

- 1. A & E only
- 2. B & C only
- 3. D & C only
- 4. D & A only

Options :

- 686340171569. 1
- 686340171570. 2
- 686340171571. 3
- 686340171572. 4

Question Number : 93 Question Id : 68634043435 Question Type : MCQ Option Shuffling : No Is Question Mandatory : No Calculator : None Response Time : N.A Think Time : N.A Minimum Instruction Time : 0 Correct Marks : 4 Wrong Marks : 1

देश में खेलों को बढ़ावा देने तथा उनमें सुधार करने के लिए भारतीय खेल प्राधिकरण की स्थापना की गई। निम्नलिखित विकल्पों में से कौन से भारतीय खेल प्राधिकरण के उद्देश्य नहीं हैं?

- A. आइ. ओ. सी. (IOC) के सभी नियमों व विनियमों को लागू करना
- B. खेल के मूलभूत ढांचे को प्रबंधित व विकसित करना
- C. खेल कूद के विकास में अनुसंधान को बढ़ावा देना
- D. तकनीकी व अन्य सहायता प्रदान करना
- E. अव्यवसायीकरण के उच्च आदर्शों को स्थापित करना।

नीचे दिए गए विकल्पों में से सबसे उपयुक्त उत्तर का चयन कीजिए:

- 1. केवल A व E
- 2. केवल B व C
- 3. केवल D व C
- 4. केवल D व A

Options :

686340171569. 1
686340171570. 2
686340171571. 3
686340171572. 4

Question Number : 94 Question Id : 68634043436 Question Type : MCQ Option Shuffling : No Is Question Mandatory : No Calculator : None Response Time : N.A Think Time : N.A Minimum Instruction Time : 0 Correct Marks : 4 Wrong Marks : 1

Match List I with List II

Match the sports festivals given below:

LIST I		LIST II	
A.	Phaeacian game	I.	Zeus
B.	Nemea festival	II.	Posedoin
C.	Isthmi festival	III.	Odysseus
D.	Pythia festival	IV.	Appollo

Choose the correct answer from the options given below:

1. A-IV, B-II, C-I, D-III
2. A-III, B-I, C-II, D-IV
3. A-II, B-I, C-III, D-IV
4. A-I, B-II, C-III, D-IV

Options :

686340171573. 1
686340171574. 2
686340171575. 3
686340171576. 4

Question Number : 94 Question Id : 68634043436 Question Type : MCQ Option Shuffling : No Is Question Mandatory : No Calculator : None Response Time : N.A Think Time : N.A Minimum Instruction Time : 0 Correct Marks : 4 Wrong Marks : 1

सूची I का सूची II से मिलान कीजिए

सूची I		सूची II	
A.	फएशिअन	I.	ज्यूस
B.	निमिअ ल्योहार	II.	पोशीडीअन
C.	इस्थमी ल्योहार	III.	ओडिशिअस
D.	पाईथिया ल्योहार	IV.	अपोलो

निम्नलिखित विकल्पों में से सही उत्तर का चयन कीजिए :

1. A-IV, B-II, C-I, D-III
2. A-III, B-I, C-II, D-IV
3. A-II, B-I, C-III, D-IV
4. A-I, B-II, C-III, D-IV

Options :

686340171573. 1
686340171574. 2
686340171575. 3
686340171576. 4

Question Number : 95 Question Id : 68634043437 Question Type : MCQ Option Shuffling : No Is Question Mandatory : No Calculator : None Response Time : N.A Think Time : N.A Minimum Instruction Time : 0 Correct Marks : 4 Wrong Marks : 1

Match List I with List II

LIST I		LIST II	
A.	Experimentalism Drdewyism after the name of John Dewey.	I.	Self-Learning
B.	Trail and error learning is	II.	Intellectualism
C.	Aristotle put greater stress on	III.	Kretchmer
D.	Proposed body classification on the basis of shape and size	IV.	Pragmatism

Choose the correct answer from the options given below:

1. A-I, B-II, C-III, D-IV
2. A-II, B-III, C-IV, D-I
3. A-III, B-IV, C-I, D-II
4. A-IV, B-I, C-II, D-III

Options :

686340171577. 1
686340171578. 2
686340171579. 3
686340171580. 4

Question Number : 95 Question Id : 68634043437 Question Type : MCQ Option Shuffling : No Is Question Mandatory : No Calculator : None Response Time : N.A Think Time : N.A Minimum Instruction Time : 0 Correct Marks : 4 Wrong Marks : 1

सूची I का सूची II से मिलान कीजिए

सूची I		सूची II	
A.	जॉन ड्यू के नाम पर प्रयोगवाद डूड्यूवाद	I.	स्वयं से सीखना
B.	परीक्षण व त्रुटी से सीखना	II.	बौद्धिकता
C.	अरस्तु ने अधिक बल दिया	III.	केशमर
D.	शरीर का वर्गीकरण, आकार रूप व माप के आधार पर प्रतिपादित	IV.	प्रेग्मातिज्म (व्यवहार)

निम्नलिखित विकल्पों में से सही उत्तर का चयन कीजिए :

1. A-I, B-II, C-III, D-IV
2. A-II, B-III, C-IV, D-I
3. A-III, B-IV, C-I, D-II
4. A-IV, B-I, C-II, D-III

Options :

686340171577. 1
686340171578. 2
686340171579. 3
686340171580. 4

Question Number : 96 Question Id : 68634043438 Question Type : MCQ Option Shuffling : No Is Question Mandatory : No Calculator : None Response Time : N.A Think Time : N.A Minimum Instruction Time : 0 Correct Marks : 4 Wrong Marks : 1

Match List I with List II

LIST I		LIST II	
A.	Parasympathetic Nervous System	I.	Helps us in controlling muscle movements and balance
B.	Peripheral Nervous System	II.	Body's House Keeping System
C.	Central Nervous System	III.	Contains 43 pairs of Nerves (Spinal and Cranial nerves)
D.	Cerebellum	IV.	Contains brain and spinal cord

Choose the correct answer from the options given below:

1. A-I, B-II, C-III, D-IV
2. A-II, B-III, C-IV, D-I
3. A-III, B-IV, C-I, D-II
4. A-IV, B-I, C-II, D-III

Options :

686340171581. 1
686340171582. 2
686340171583. 3

Question Number : 96 Question Id : 68634043438 Question Type : MCQ Option Shuffling : No Is Question Mandatory : No Calculator : None Response Time : N.A Think Time : N.A Minimum Instruction Time : 0 Correct Marks : 4 Wrong Marks : 1

सूची I का सूची II से मिलान कीजिए

सूची I		सूची II	
A.	पैरासिम्पेथेटिक स्नायु संस्थान	I.	संतुलन व मांसपेशीय हलचलों के नियंत्रण में सहायक
B.	पैरिफेरल तंत्रिका संस्थान	II.	शरीर के रख रखाव में सहायक
C.	केन्द्रीय तंत्रिका संस्थान	III.	तंत्रिकाओं के 43 जोड़ होना (स्पाइनल और क्रेनियल तंत्रिकाएँ)
D.	सेरिबेलम	IV.	मस्तिष्क व मेरुदंड का शामिल होना

निम्नलिखित विकल्पों में से सही उत्तर का चयन कीजिए :

1. A-I, B-II, C-III, D-IV
2. A-II, B-III, C-IV, D-I
3. A-III, B-IV, C-I, D-II
4. A-IV, B-I, C-II, D-III

Options :

686340171581. 1
686340171582. 2
686340171583. 3
686340171584. 4

Question Number : 97 Question Id : 68634043439 Question Type : MCQ Option Shuffling : No Is Question Mandatory : No Calculator : None Response Time : N.A Think Time : N.A Minimum Instruction Time : 0 Correct Marks : 4 Wrong Marks : 1

Match List I with List II

LIST I (Terminologies of Hockey)		LIST II (Descriptions)	
A.	Penalty Stroke	I.	When position is unclear, two opposite players tap their sticks above the ball to restart play
B.	Flick	II.	Free one on one shot
C.	Bully	III.	Using wrists to put force behind the ball to raise it
D.	Tackle	IV.	Defensive effort to take ball away from the opponent.

Choose the correct answer from the options given below:

1. A-I, B-IV, C-II, D-III
2. A-II, B-III, C-I, D-IV
3. A-III, B-II, C-IV, D-I
4. A-IV, B-I, C-III, D-II

Options :

686340171585. 1
686340171586. 2
686340171587. 3
686340171588. 4

Question Number : 97 Question Id : 68634043439 Question Type : MCQ Option Shuffling : No Is Question Mandatory : No Calculator : None Response Time : N.A Think Time : N.A Minimum Instruction Time : 0

Correct Marks : 4 Wrong Marks : 1

सूची I का सूची II से मिलान कीजिए

सूची I (हॉकी की शब्दावली)		सूची II (विवरण)	
A.	पेनल्टी स्ट्रोक	I.	जब बॉल की पोजीशन पूर्णतः पता नहीं होती, तो दोनों खिलाड़ी बॉल के ऊपर स्टिक को छू कर खेल शुरू करते हैं
B.	फ्लिक	II.	आमने सामने की स्थिति में फ्री शॉट
C.	बुलि	III.	बॉल के पीछे कलाई से जोर लगाकर बॉल को उठाना
D.	टेकल	IV.	विरोधी से बाल को छीनने की कोशिश करना

निम्नलिखित विकल्पों में से सही उत्तर का चयन कीजिए :

1. A-I, B-IV, C-II, D-III
2. A-II, B-III, C-I, D-IV
3. A-III, B-II, C-IV, D-I
4. A-IV, B-I, C-III, D-II

Options :

686340171585. 1
686340171586. 2
686340171587. 3
686340171588. 4

Question Number : 98 Question Id : 68634043440 Question Type : MCQ Option Shuffling : No Is Question Mandatory : No Calculator : None Response Time : N.A Think Time : N.A Minimum Instruction Time : 0

Correct Marks : 4 Wrong Marks : 1

Match List I with List II

LIST I (Name of the test items)	LIST II (Objective of the test)
A. Chin-up	I. Explosive Strength of leg
B. Shuttle-run	II. Speed and agility
C. Soft-ball throw	III. Explosive Power of shoulder muscle
D. Standing broad Jump	IV. Muscular strength of the shoulder

Choose the correct answer from the options given below:

1. A-IV, B-I, C-III, D-II
2. A-III, B-II, C-I, D-IV
3. A-IV, B-II, C-III, D-I
4. A-II, B-III, C-I, D-IV

Options :

686340171589. 1
686340171590. 2
686340171591. 3
686340171592. 4

Question Number : 98 Question Id : 68634043440 Question Type : MCQ Option Shuffling : No Is Question Mandatory : No Calculator : None Response Time : N.A Think Time : N.A Minimum Instruction Time : 0

Correct Marks : 4 Wrong Marks : 1

सूची I का सूची II से मिलान कीजिए

सूची I (टेस्ट के नाम)	सूची II (टेस्ट के उद्देश्य)
A. चिन अप	I. पैरों की विस्फोटक शक्ति के लिए
B. शटल रन	II. गति और चपलता
C. सॉफ्ट बॉल थ्रो	III. कंधे की मांसपेशी की विस्फोटक शक्ति
D. स्टैंडिंग ब्रॉड जम्प	IV. कंधे की मांसपेशी ताकत

निम्नलिखित विकल्पों में से सही उत्तर का चयन कीजिए :

1. A-IV, B-I, C-III, D-II
2. A-III, B-II, C-I, D-IV
3. A-IV, B-II, C-III, D-I
4. A-II, B-III, C-I, D-IV

Options :

686340171589. 1
686340171590. 2
686340171591. 3
686340171592. 4

Question Number : 99 Question Id : 68634043441 Question Type : MCQ Option Shuffling : No Is Question Mandatory : No Calculator : None Response Time : N.A Think Time : N.A Minimum Instruction Time : 0 Correct Marks : 4 Wrong Marks : 1

Match List I with List II

LIST I (Name of Player)		LIST II (Arjun Award)	
A.	Manoj Bhargava	I.	Swimming-1974
B.	Limba Ram	II.	Kabaddi-2019
C.	Ajay Thakur	III.	Hockey-2020
D.	Shivender Pratap Santosh Singh	IV.	Archery-1991

Choose the correct answer from the options given below:

1. A-II, B-I, C-IV, D-III
2. A-II, B-IV, C-III, D-I
3. A-I, B-IV, C-II, D-III
4. A-II, B-III, C-I, D-IV

Options :

686340171593. 1
686340171594. 2
686340171595. 3
686340171596. 4

Question Number : 99 Question Id : 68634043441 Question Type : MCQ Option Shuffling : No Is Question Mandatory : No Calculator : None Response Time : N.A Think Time : N.A Minimum Instruction Time : 0 Correct Marks : 4 Wrong Marks : 1

सूची I का सूची II से मिलान कीजिए

सूची I (खिलाड़ी का नाम)		सूची II (अर्जुन अवार्ड)	
A.	मनोज भार्गव	I.	तेराकी-1974
B.	लिम्बा राम	II.	कबड्डी-2019
C.	अजय ठाकुर	III.	हाकी-2020
D.	शिवेंद्र प्रताप संतोष सिंह	IV.	तीरंदाजी-1991

निम्नलिखित विकल्पों में से सही उत्तर का चयन कीजिए :

1. A-II, B-I, C-IV, D-III
2. A-II, B-IV, C-III, D-I
3. A-I, B-IV, C-II, D-III
4. A-II, B-III, C-I, D-IV

Options :

686340171593. 1
686340171594. 2
686340171595. 3

686340171596. 4

Question Number : 100 Question Id : 68634043442 Question Type : MCQ Option Shuffling : No Is Question Mandatory : No Calculator : None Response Time : N.A Think Time : N.A Minimum Instruction Time : 0 Correct Marks : 4 Wrong Marks : 1

Match List I with List II

LIST I (Names of Institutes)		LIST II (Official Venue)	
A.	Sh. Hanuman Vyayam Prasarak Mandal	I.	Lucknow
B.	Christian College of Physical Education	II.	Calcutta
C.	Indian Olympic Association	III.	Amaravati
D.	Amateur Kabaddi Federation of India	IV.	New Delhi

Choose the correct answer from the options given below:

1. A-III, B-II, C-IV, D-I
2. A-II, B-IV, C-I, D-III
3. A-III, B-I, C-IV, D-II
4. A-IV, B-III, C-I, D-II

Options :

686340171597. 1
686340171598. 2
686340171599. 3
686340171600. 4

Question Number : 100 Question Id : 68634043442 Question Type : MCQ Option Shuffling : No Is Question Mandatory : No Calculator : None Response Time : N.A Think Time : N.A Minimum Instruction Time : 0 Correct Marks : 4 Wrong Marks : 1

सूची I का सूची II से मिलान कीजिए

सूची I (संस्थानों के नाम/संघ)		सूची II (अधिकारिक स्थान)	
A.	श्री हनुमान व्यायाम प्रसारक मंडल	I.	लखनऊ
B.	क्रिश्चियन कालेज ऑफ़ फिजिकल एजुकेशन	II.	कलकत्ता
C.	भारतीय ओलंपिक संघ	III.	अमरावती
D.	भारतीय कबड्डी संघ	IV.	नई दिल्ली

निम्नलिखित विकल्पों में से सही उत्तर का चयन कीजिए :

1. A-III, B-II, C-IV, D-I
2. A-II, B-IV, C-I, D-III
3. A-III, B-I, C-IV, D-II
4. A-IV, B-III, C-I, D-II

Options :

686340171597. 1

686340171598.2

686340171599.3

686340171600.4