

# National Testing Agency

**Question Paper Name :** Architecture Hin 15th June 2023 Shift 1  
**Subject Name :** Architecture Hin  
**Creation Date :** 2023-06-15 19:45:11  
**Duration :** 120  
**Total Marks :** 400  
**Display Marks:** Yes

## Architecture

**Group Number :** 1  
**Group Id :** 686340196  
**Group Maximum Duration :** 0  
**Group Minimum Duration :** 120  
**Show Attended Group? :** No  
**Edit Attended Group? :** No  
**Break time :** 0  
**Group Marks :** 400  
**Is this Group for Examiner? :** No  
**Examiner permission :** Cant View  
**Show Progress Bar? :** No

## Part A

**Section Id :** 686340391  
**Section Number :** 1  
**Section type :** Online  
**Mandatory or Optional :** Mandatory  
**Number of Questions :** 21  
**Number of Questions to be attempted :** 21  
**Section Marks :** 100  
**Enable Mark as Answered Mark for Review and Clear Response :** Yes  
**Maximum Instruction Time :** 0  
**Sub-Section Number :** 1  
**Sub-Section Id :** 686340650  
**Question Shuffling Allowed :** No  
**Is Section Default? :** null

**Question Id :** 68634019746 **Question Type :** COMPREHENSION **Sub Question Shuffling Allowed :** Yes **Group Comprehension Questions :** No **Question Pattern Type :** NonMatrix **Calculator :** None **Response Time :** N.A **Think Time :** N.A **Minimum Instruction Time :** 0  
**Question Numbers :** (1 to 5)  
**Question Label :** Comprehension

नीचे दिए गए गद्यांश के ध्यान पूर्वक पढ़कर प्रश्नों के उत्तर दीजिए:-

भारतीय जन प्रायः किसी भी कार्य को समय से नहीं कर पाते, उनमें फुर्ती का अभाव है। यदि सैनिक शिक्षा अनिवार्य कर दी जाए तो तो हमारे अन्दर नियमित रूप से समय पर कार्य करने की आदत पड़ जाएगी। सैनिक शिक्षा से हमारे भीतर अनुशासन की भावना आ जाएगी, जिससे हमारा जीवन क्रमबद्ध व सुव्यवस्थित होने लगेगा और एक आदर्श बन जायेगा। इस शिक्षा में श्रम पर बल दिया जाता है अतः सैनिक शिक्षा से श्रम करके हम अपनी देह पुष्ट करेंगे और राष्ट्र निर्माण में अधिक योगदान कर सकेंगे। इस शिक्षा के द्वारा ऊँच-नीच, छोटे-बड़े की भावना सर्वथा अंत हो जाएगी। सेना में एक जैसी वेशभूषा इस सहयोग की भावना को और भी ज्यादा पुष्टि प्रदान करती है। सैनिक को शारीरिक श्रम अधिक करना पड़ता है अतः उसका शरीर स्वस्थ रहता है रोग के अभाव में मानव में अधिक कार्य करने की क्षमता होगी, इससे राष्ट्र के आर्थिक स्थिति में सुधार होगा

इसके लिए आवश्यक है कि महाविद्यालयों में सैनिक शिक्षा अनिवार्य कर दी जाये। इसका विद्यार्थी जीवन पर विशेष प्रभाव पड़ेगा। जब विद्यार्थी शिक्षा पूर्ण करने के बाद जीवन में पदार्पण करेंगे तो वे असमर्थता व असहायता का अनुभव नहीं करेंगे। यही नहीं, देश को जब भी सैनिकों की आवश्यकता पड़ेगी तो उसे उनकी कमी का अनुभव नहीं होगा ; क्योंकि देश का हरेक नव युवक सैनिक बन जाएगा। सैनिक शिक्षा प्रत्येक मानव में साहस का संचार करती है इस लिए सैनिक शिक्षा का बड़ा महत्त्व है।

#### Sub questions

**Question Number : 1 Question Id : 68634019747 Question Type : MCQ Option Shuffling : No Is Question Mandatory : No Calculator : None Response Time : N.A Think Time : N.A Minimum Instruction Time : 0**

**Correct Marks : 4 Wrong Marks : 1**

इस गद्यांश के अनुसार कौन सी शिक्षा को अनिवार्य करने की बात की गयी है।

1. सैनिक शिक्षा
2. कौशल शिक्षा
3. औपचारिक शिक्षा
4. अनौपचारिक शिक्षा

#### Options :

68634078001. 1  
68634078002. 2  
68634078003. 3  
68634078004. 4

**Question Number : 2 Question Id : 68634019748 Question Type : MCQ Option Shuffling : No Is Question Mandatory : No Calculator : None Response Time : N.A Think Time : N.A Minimum Instruction Time : 0**

**Correct Marks : 4 Wrong Marks : 1**

सुव्यवस्थित शब्द में सु क्या होगा :

1. शब्द
2. प्रत्यय
3. अव्यय
4. उपसर्ग

**Options :**

68634078005. 1  
68634078006. 2  
68634078007. 3  
68634078008. 4

**Question Number : 3 Question Id : 68634019749 Question Type : MCQ Option Shuffling : No Is Question Mandatory : No Calculator : None Response Time : N.A Think Time : N.A Minimum Instruction Time : 0**

**Correct Marks : 4 Wrong Marks : 1**

इस शिक्षा में सब से अधिक किस पर बल दिया जाता है।

1. श्रम पर
2. अनुशासन पर
3. सहयोग पर
4. वेशभूषा पर

**Options :**

68634078009. 1  
68634078010. 2  
68634078011. 3  
68634078012. 4

**Question Number : 4 Question Id : 68634019750 Question Type : MCQ Option Shuffling : No Is Question Mandatory : No Calculator : None Response Time : N.A Think Time : N.A Minimum Instruction Time : 0**

**Correct Marks : 4 Wrong Marks : 1**

नियमित शब्द का विलोम होगा।

1. नियम पूर्वक
2. अनियमित
3. नियम सहित
4. बिना कार्य के नियम

**Options :**

68634078013. 1
68634078014. 2
68634078015. 3
68634078016. 4

**Question Number : 5 Question Id : 68634019751 Question Type : MCQ Option Shuffling : No Is Question Mandatory : No Calculator : None Response Time : N.A Think Time : N.A Minimum Instruction Time : 0**

**Correct Marks : 4 Wrong Marks : 1**

सैनिक शिक्षा से सबसे अधिक किस भावना को बल मिलता है, जिससे जीवन क्रमबद्ध व सुव्यवस्थित होता है?

1. सहयोग की भाषा
2. अनुशासन की भावना
3. ऊँच-नीच की भावना का अंत
4. श्रम की भावना

**Options :**

68634078017. 1
68634078018. 2
68634078019. 3
68634078020. 4

**Question Id : 68634019746 Question Type : COMPREHENSION Sub Question Shuffling Allowed : Yes Group Comprehension Questions : No Question Pattern Type : NonMatrix Calculator : None Response Time : N.A Think Time : N.A Minimum Instruction Time : 0**

**Question Numbers : (1 to 5)**

Question Label : Comprehension

नीचे दिए गए गद्यांश के ध्यान पूर्वक पढ़कर प्रश्नों के उत्तर दीजिए:-

भारतीय जन प्रायः किसी भी कार्य को समय से नहीं कर पाते, उनमें फुर्ती का अभाव है। यदि सैनिक शिक्षा अनिवार्य कर दी जाए तो तो हमारे अन्दर नियमित रूप से समय पर कार्य करने की आदत पड़ जाएगी। सैनिक शिक्षा से हमारे भीतर अनुशासन की भावना आ जाएगी, जिससे हमारा जीवन क्रमबद्ध व सुव्यवस्थित होने लगेगा और एक आदर्श बन जायेगा। इस शिक्षा में श्रम पर बल दिया जाता है अतः सैनिक शिक्षा से श्रम करके हम अपनी देह पुष्ट करेंगे और राष्ट्र निर्माण में अधिक योगदान कर सकेंगे। इस शिक्षा के द्वारा ऊँच-नीच, छोटे-बड़े की भावना सर्वथा अंत हो जाएगी। सेना में एक जैसी वेशभूषा इस सहयोग की भावना को और भी ज्यादा पुष्टि प्रदान करती है। सैनिक को शारीरिक श्रम अधिक करना पड़ता है अतः उसका शरीर स्वस्थ रहता है रोग के अभाव में मानव में अधिक कार्य करने की क्षमता होगी, इससे राष्ट्र के आर्थिक स्थिति में सुधार होगा

इसके लिए आवश्यक है कि महाविद्यालयों में सैनिक शिक्षा अनिवार्य कर दी जाये। इसका विद्यार्थी जीवन पर विशेष प्रभाव पड़ेगा। जब विद्यार्थी शिक्षा पूर्ण करने के बाद जीवन में पदार्पण करेंगे तो वे असमर्थता व असहायता का अनुभव नहीं करेंगे। यही नहीं, देश को जब भी सैनिकों की आवश्यकता पड़ेगी तो उसे उनकी कमी का अनुभव नहीं होगा : क्योंकि देश का हरेक नव युवक सैनिक बन जाएगा। सैनिक शिक्षा प्रत्येक मानव में साहस का संचार करती है इस लिए सैनिक शिक्षा का बड़ा महत्त्व है।

**Sub questions**

**Question Number : 1 Question Id : 68634019747 Question Type : MCQ Option Shuffling : No Is Question Mandatory : No Calculator : None Response Time : N.A Think Time : N.A Minimum Instruction Time : 0**

**Correct Marks : 4 Wrong Marks : 1**

इस गद्यांश के अनुसार कौन सी शिक्षा को अनिवार्य करने की बात की गयी है।

1. सैनिक शिक्षा
2. कौशल शिक्षा
3. औपचारिक शिक्षा
4. अनौपचारिक शिक्षा

**Options :**

68634078001. 1  
68634078002. 2  
68634078003. 3  
68634078004. 4

**Question Number : 2 Question Id : 68634019748 Question Type : MCQ Option Shuffling : No Is Question Mandatory : No Calculator : None Response Time : N.A Think Time : N.A Minimum Instruction Time : 0**

**Correct Marks : 4 Wrong Marks : 1**

सुव्यवस्थित शब्द में सु क्या होगा :

1. शब्द
2. प्रत्यय
3. अव्यय
4. उपसर्ग

**Options :**

68634078005. 1  
68634078006. 2  
68634078007. 3  
68634078008. 4

**Question Number : 3 Question Id : 68634019749 Question Type : MCQ Option Shuffling : No Is Question Mandatory : No Calculator : None Response Time : N.A Think Time : N.A Minimum Instruction Time : 0**

**Correct Marks : 4 Wrong Marks : 1**

इस शिक्षा में सब से अधिक किस पर बल दिया जाता है।

1. श्रम पर
2. अनुशासन पर
3. सहयोग पर
4. वेशभूषा पर

**Options :**

68634078009. 1  
68634078010. 2  
68634078011. 3  
68634078012. 4

**Question Number : 4 Question Id : 68634019750 Question Type : MCQ Option Shuffling : No Is Question Mandatory : No Calculator : None Response Time : N.A Think Time : N.A Minimum Instruction Time : 0**

**Correct Marks : 4 Wrong Marks : 1**

नियमित शब्द का विलोम होगा।

1. नियम पूर्वक
2. अनियमित
3. नियम सहित
4. बिना कार्य के नियम

**Options :**

68634078013. 1  
68634078014. 2  
68634078015. 3  
68634078016. 4

**Question Number : 5 Question Id : 68634019751 Question Type : MCQ Option Shuffling : No Is Question Mandatory : No Calculator : None Response Time : N.A Think Time : N.A Minimum Instruction Time : 0**

**Correct Marks : 4 Wrong Marks : 1**

सैनिक शिक्षा से सबसे अधिक किस भावना को बल मिलता है, जिससे जीवन क्रमबद्ध व सुव्यवस्थित होता है?

1. सहयोग की भाषा
2. अनुशासन की भावना
3. ऊँच-नीच की भावना का अंत
4. श्रम की भावना

**Options :**

68634078017. 1

68634078018. 2

68634078019. 3

68634078020. 4

**Sub-Section Number :**

2

**Sub-Section Id :**

686340651

**Question Shuffling Allowed :**

Yes

**Is Section Default? :**

null

**Question Number : 6 Question Id : 68634019752 Question Type : MCQ Option Shuffling : No Is Question Mandatory : No Calculator : None Response Time : N.A Think Time : N.A Minimum Instruction Time : 0**

**Correct Marks : 4 Wrong Marks : 1**

वाक्य को शुद्ध कीजिये :-

वाक्य- आपने मुझे केवल मात्र दो पुस्तकें दी हैं।

1. आपने मुझे केवल मात्र दो पुस्तकें दी हैं।
2. आपने मुझे दो पुस्तकें दी हैं।
3. आपने केवल पुस्तकें दी हैं।
4. मात्र दो पुस्तकें ही दी हैं।

**Options :**

68634078021. 1

68634078022. 2

68634078023. 3

68634078024. 4

**Question Number : 6 Question Id : 68634019752 Question Type : MCQ Option Shuffling : No Is Question Mandatory : No Calculator : None Response Time : N.A Think Time : N.A Minimum Instruction Time : 0**

**Correct Marks : 4 Wrong Marks : 1**

वाक्य को शुद्ध कीजिये :-

वाक्य- आपने मुझे केवल मात्र दो पुस्तकें दी हैं।

1. आपने मुझे केवल मात्र दो पुस्तकें दी हैं।
2. आपने मुझे दो पुस्तकें दी हैं।
3. आपने केवल पुस्तकें दी हैं।
4. मात्र दो पुस्तकें ही दी हैं।

**Options :**

68634078021. 1

68634078022. 2

68634078023. 3

68634078024. 4

Question Number : 7 Question Id : 68634019753 Question Type : MCQ Option Shuffling : No Is Question Mandatory : No Calculator : None Response Time : N.A Think Time : N.A Minimum Instruction Time : 0

Correct Marks : 4 Wrong Marks : 1

सूची I का सूची II से मिलान कीजिए

सूची I (पद)		सूची II (विग्रह)	
A.	शोकार्त	I.	दिन के बाद दिन
B.	दिनानुदिन	II.	शोक से ग्रस्त
C.	शोकग्रस्त	III.	शोक से आकुल
D.	शोकाकुल	IV.	शोक से आर्त

निम्नलिखित विकल्पों में से सही उत्तर का चयन कीजिए :

1. A-I, B-II, C-III, D-IV
2. A-III, B-II, C-I, D-IV
3. A-IV, B-I, C-II, D-III
4. A-I, B-III, C-IV, D-II

Options :

68634078025. 1  
68634078026. 2  
68634078027. 3  
68634078028. 4

Question Number : 7 Question Id : 68634019753 Question Type : MCQ Option Shuffling : No Is Question Mandatory : No Calculator : None Response Time : N.A Think Time : N.A Minimum Instruction Time : 0

Correct Marks : 4 Wrong Marks : 1

सूची I का सूची II से मिलान कीजिए

सूची I (पद)		सूची II (विग्रह)	
A.	शोकार्त	I.	दिन के बाद दिन
B.	दिनानुदिन	II.	शोक से ग्रस्त
C.	शोकग्रस्त	III.	शोक से आकुल
D.	शोकाकुल	IV.	शोक से आर्त

निम्नलिखित विकल्पों में से सही उत्तर का चयन कीजिए :

1. A-I, B-II, C-III, D-IV
2. A-III, B-II, C-I, D-IV
3. A-IV, B-I, C-II, D-III
4. A-I, B-III, C-IV, D-II

Options :

68634078025. 1  
68634078026. 2



68634078027. 3

68634078028. 4

**Question Number : 8 Question Id : 68634019754 Question Type : MCQ Option Shuffling : No Is Question Mandatory : No Calculator : None Response Time : N.A Think Time : N.A Minimum Instruction Time : 0**

**Correct Marks : 4 Wrong Marks : 1**

आश्रम शब्द के पर्यायवाची है।

- A. कुटी
- B. स्तर
- C. घर
- D. अखाड़ा
- E. मकान

नीचे दिए गए विकल्पों में से सबसे उपयुक्त उत्तर का चयन कीजिए:

1. केवल A, B, D
2. केवल D, B, A
3. केवल C, D, E
4. केवल E, B, A

**Options :**

68634078029. 1

68634078030. 2

68634078031. 3

68634078032. 4

**Question Number : 8 Question Id : 68634019754 Question Type : MCQ Option Shuffling : No Is Question Mandatory : No Calculator : None Response Time : N.A Think Time : N.A Minimum Instruction Time : 0**

**Correct Marks : 4 Wrong Marks : 1**

आश्रम शब्द के पर्यायवाची है।

- A. कुटी
- B. स्तर
- C. घर
- D. अखाड़ा
- E. मकान

नीचे दिए गए विकल्पों में से सबसे उपयुक्त उत्तर का चयन कीजिए:

- 1. केवल A, B, D
- 2. केवल D, B, A
- 3. केवल C, D, E
- 4. केवल E, B, A

**Options :**

- 68634078029. 1
- 68634078030. 2
- 68634078031. 3
- 68634078032. 4

**Question Number : 9 Question Id : 68634019755 Question Type : MCQ Option Shuffling : No Is Question Mandatory : No Calculator : None Response Time : N.A Think Time : N.A Minimum Instruction Time : 0**

**Correct Marks : 4 Wrong Marks : 1**

पपिहा पक्षी की बोली क्या है?

- 1. पीऊ-पीऊ
- 2. पी-पी
- 3. ऊह-ऊह
- 4. घु-घु

**Options :**

- 68634078033. 1
- 68634078034. 2
- 68634078035. 3
- 68634078036. 4

**Question Number : 9 Question Id : 68634019755 Question Type : MCQ Option Shuffling : No Is Question Mandatory : No Calculator : None Response Time : N.A Think Time : N.A Minimum Instruction Time : 0**

**Correct Marks : 4 Wrong Marks : 1**

पपिहा पक्षी की बोली क्या है?

1. पीऊ-पीऊ
2. पी-पी
3. ऊह-ऊह
4. घु-घु

**Options :**

68634078033. 1  
68634078034. 2  
68634078035. 3  
68634078036. 4

**Question Number : 10 Question Id : 68634019756 Question Type : MCQ Option Shuffling : No Is Question Mandatory : No Calculator : None Response Time : N.A Think Time : N.A Minimum Instruction Time : 0**

**Correct Marks : 4 Wrong Marks : 1**

खत्री शब्द का लिंग बदलकर यह होगा :-

1. खत्राणी
2. खतराणी
3. खतरानी
4. खतरे की रानी

**Options :**

68634078037. 1  
68634078038. 2  
68634078039. 3  
68634078040. 4

**Question Number : 10 Question Id : 68634019756 Question Type : MCQ Option Shuffling : No Is Question Mandatory : No Calculator : None Response Time : N.A Think Time : N.A Minimum Instruction Time : 0**

**Correct Marks : 4 Wrong Marks : 1**

खत्री शब्द का लिंग बदलकर यह होगा :-

1. खत्राणी
2. खतराणी
3. खतरानी
4. खतरे की रानी

**Options :**

68634078037. 1

68634078038. 2

68634078039. 3

68634078040. 4

**Question Number : 11 Question Id : 68634019757 Question Type : MCQ Option Shuffling : No Is Question Mandatory : No Calculator : None Response Time : N.A Think Time : N.A Minimum Instruction Time : 0**

**Correct Marks : 4 Wrong Marks : 1**

दी गयी श्रृंखला 8,18,32,50,72,-----में अगला पद है:

1. 120

2. 90

3. 92

4. 98

**Options :**

68634078041. 1

68634078042. 2

68634078043. 3

68634078044. 4

**Question Number : 11 Question Id : 68634019757 Question Type : MCQ Option Shuffling : No Is Question Mandatory : No Calculator : None Response Time : N.A Think Time : N.A Minimum Instruction Time : 0**

**Correct Marks : 4 Wrong Marks : 1**

दी गयी श्रृंखला 8,18,32,50,72,-----में अगला पद है:

1. 120

2. 90

3. 92

4. 98

**Options :**

68634078041. 1

68634078042. 2

68634078043. 3

68634078044. 4

**Question Number : 12 Question Id : 68634019758 Question Type : MCQ Option Shuffling : No Is Question Mandatory : No Calculator : None Response Time : N.A Think Time : N.A Minimum Instruction Time : 0**

**Correct Marks : 4 Wrong Marks : 1**

एक त्रुटिपूर्ण मिनट की सुई प्रति घंटे 90% वृत्त को पूरा करती है। यदि वह आठ से प्रारम्भ करती है तो वह दी गयी गति से कितने मिनट में सात अंक तक पहुँच जाएगी।

1. 53

2. 58

3. 61

4. 64

**Options :**

68634078045. 1

68634078046. 2

68634078047. 3

68634078048. 4

**Question Number : 12 Question Id : 68634019758 Question Type : MCQ Option Shuffling : No Is Question Mandatory : No Calculator : None Response Time : N.A Think Time : N.A Minimum Instruction Time : 0**

**Correct Marks : 4 Wrong Marks : 1**

एक त्रुटिपूर्ण मिनट की सुई प्रति घंटे 90% वृत्त को पूरा करती है। यदि वह आठ से प्रारम्भ करती है तो वह दी गयी गति से कितने मिनट में सात अंक तक पहुँच जाएगी।

1. 53

2. 58

3. 61

4. 64

**Options :**

68634078045. 1

68634078046. 2

68634078047. 3

68634078048. 4

**Question Number : 13 Question Id : 68634019759 Question Type : MCQ Option Shuffling : No Is Question Mandatory : No Calculator : None Response Time : N.A Think Time : N.A Minimum Instruction Time : 0**

**Correct Marks : 4 Wrong Marks : 1**

पिता की आयु 1980 में अपने पुत्र की वर्तमान आयु की दोगुनी थी। यदि पुत्र की वर्तमान आयु X वर्ष है तथा पिता की आयु 79 वर्ष है, तो X का मान है:

1. 15 वर्ष

2. 17 वर्ष

3. 23 वर्ष

4. 18 वर्ष

**Options :**

- 68634078049. 1
- 68634078050. 2
- 68634078051. 3
- 68634078052. 4

**Question Number : 13 Question Id : 68634019759 Question Type : MCQ Option Shuffling : No Is Question Mandatory : No Calculator : None Response Time : N.A Think Time : N.A Minimum Instruction Time : 0**

**Correct Marks : 4 Wrong Marks : 1**

पिता की आयु 1980 में अपने पुत्र की वर्तमान आयु की दोगुनी थी। यदि पुत्र की वर्तमान आयु  $X$  वर्ष है तथा पिता की आयु 79 वर्ष है, तो  $X$  का मान है:

- 1. 15 वर्ष
- 2. 17 वर्ष
- 3. 23 वर्ष
- 4. 18 वर्ष

**Options :**

- 68634078049. 1
- 68634078050. 2
- 68634078051. 3
- 68634078052. 4

**Question Number : 14 Question Id : 68634019760 Question Type : MCQ Option Shuffling : No Is Question Mandatory : No Calculator : None Response Time : N.A Think Time : N.A Minimum Instruction Time : 0**

**Correct Marks : 4 Wrong Marks : 1**

$X$  के 25% और  $Y$  के 120% का गुणनफल =  $(XY)$  का \_\_\_\_\_ %.

- 1. 30
- 2. 25
- 3. 24
- 4. 60

**Options :**

- 68634078053. 1
- 68634078054. 2
- 68634078055. 3
- 68634078056. 4

**Question Number : 14 Question Id : 68634019760 Question Type : MCQ Option Shuffling : No Is Question Mandatory : No Calculator : None Response Time : N.A Think Time : N.A Minimum Instruction Time : 0**

**Correct Marks : 4 Wrong Marks : 1**

X के 25% और Y के 120% का गुणनफल = (XY) का \_\_\_\_\_ %.

1. 30
2. 25
3. 24
4. 60

**Options :**

68634078053. 1  
68634078054. 2  
68634078055. 3  
68634078056. 4

**Question Number : 15 Question Id : 68634019761 Question Type : MCQ Option Shuffling : No Is Question Mandatory : No Calculator : None Response Time : N.A Think Time : N.A Minimum Instruction Time : 0**

**Correct Marks : 4 Wrong Marks : 1**

चार घंटों में किसी रेलगाड़ी की औसत चाल (m/s) क्या है जबकि वह पहले घंटे में 36 km/h, दूसरे घंटे में 72 km/h तथा अंतिम दो घंटों में 108 km/h से दौड़ती है:

1. 15
2. 45
3. 45/2
4. 30

**Options :**

68634078057. 1  
68634078058. 2  
68634078059. 3  
68634078060. 4

**Question Number : 15 Question Id : 68634019761 Question Type : MCQ Option Shuffling : No Is Question Mandatory : No Calculator : None Response Time : N.A Think Time : N.A Minimum Instruction Time : 0**

**Correct Marks : 4 Wrong Marks : 1**

चार घंटों में किसी रेलगाड़ी की औसत चाल (m/s) क्या है जबकि वह पहले घंटे में 36 km/h, दूसरे घंटे में 72 km/h तथा अंतिम दो घंटों में 108 km/h से दौड़ती है:

1. 15
2. 45
3. 45/2
4. 30

**Options :**

68634078057. 1  
68634078058. 2  
68634078059. 3  
68634078060. 4

**Question Number : 16 Question Id : 68634019762 Question Type : MCQ Option Shuffling : No Is Question Mandatory : No Calculator : None Response Time : N.A Think Time : N.A Minimum Instruction Time : 0**

**Correct Marks : 4 Wrong Marks : 1**

दी गयी श्रृंखला:85, 43, 44, 67.5, 137, 345 का अवलोकन करें तो ज्ञात होता है कि श्रृंखला 125, (A), (B), (C), (D), (E) के बीच सामान सम्बन्ध स्थापित होता है। ज्ञात कीजिये कि (C) के स्थान पर निम्न में से कौन सी संख्या प्रतिस्थापित होगी?

1. 86
2. 107.5
3. 112.5
4. 97.5

**Options :**

68634078061. 1  
68634078062. 2  
68634078063. 3  
68634078064. 4

**Question Number : 16 Question Id : 68634019762 Question Type : MCQ Option Shuffling : No Is Question Mandatory : No Calculator : None Response Time : N.A Think Time : N.A Minimum Instruction Time : 0**

**Correct Marks : 4 Wrong Marks : 1**

दी गयी श्रृंखला:85, 43, 44, 67.5, 137, 345 का अवलोकन करें तो ज्ञात होता है कि श्रृंखला 125, (A), (B), (C), (D), (E) के बीच सामान सम्बन्ध स्थापित होता है। ज्ञात कीजिये कि (C) के स्थान पर निम्न में से कौन सी संख्या प्रतिस्थापित होगी?

1. 86
2. 107.5
3. 112.5
4. 97.5

**Options :**

68634078061. 1  
68634078062. 2  
68634078063. 3  
68634078064. 4

**Question Number : 17 Question Id : 68634019763 Question Type : MCQ Option Shuffling : No Is Question Mandatory : No Calculator : None Response Time : N.A Think Time : N.A Minimum Instruction Time : 0**

**Correct Marks : 4 Wrong Marks : 1**



वर्तिका दाए ओर मुड़ने से पहले 90 मीटर पैदल चलती हैं। वह दोबारा दाए ओर मुड़ने से पहले 20 मीटर पैदल चलती है। वह 30 मीटर आगे की ओर चलती है और फिर उत्तर की ओर 100 मीटर चलती है वह अपने प्रारंभिक स्थान से कितनी दूर है?

1. 80 मीटर
2. 100 मीटर
3. 140 मीटर
4. 260 मीटर

**Options :**

68634078065. 1  
68634078066. 2  
68634078067. 3  
68634078068. 4

**Question Number : 17 Question Id : 68634019763 Question Type : MCQ Option Shuffling : No Is Question Mandatory : No Calculator : None Response Time : N.A Think Time : N.A Minimum Instruction Time : 0**

**Correct Marks : 4 Wrong Marks : 1**

वर्तिका दाए ओर मुड़ने से पहले 90 मीटर पैदल चलती हैं। वह दोबारा दाए ओर मुड़ने से पहले 20 मीटर पैदल चलती है। वह 30 मीटर आगे की ओर चलती है और फिर उत्तर की ओर 100 मीटर चलती है वह अपने प्रारंभिक स्थान से कितनी दूर है?

1. 80 मीटर
2. 100 मीटर
3. 140 मीटर
4. 260 मीटर


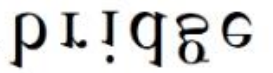


**Options :**

68634078065. 1  
68634078066. 2  
68634078067. 3  
68634078068. 4

**Question Number : 18 Question Id : 68634019764 Question Type : MCQ Option Shuffling : No Is Question Mandatory : No Calculator : None Response Time : N.A Think Time : N.A Minimum Instruction Time : 0**

**Correct Marks : 4 Wrong Marks : 1**

शब्द "bridge" की छवि का निम्न में से पहचान कीजिए।

1. 
2. 
3. 
4. 


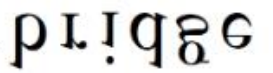


**Options :**

- 68634078069. 1
- 68634078070. 2
- 68634078071. 3
- 68634078072. 4

**Question Number : 18 Question Id : 68634019764 Question Type : MCQ Option Shuffling : No Is Question Mandatory : No Calculator : None Response Time : N.A Think Time : N.A Minimum Instruction Time : 0**

**Correct Marks : 4 Wrong Marks : 1**

शब्द "bridge" की छवि का निम्न में से पहचान कीजिए।

1. 
2. 
3. 
4. 

**Options :**

- 68634078069. 1
- 68634078070. 2
- 68634078071. 3
- 68634078072. 4

**Question Number : 19 Question Id : 68634019765 Question Type : MCQ Option Shuffling : No Is Question Mandatory : No Calculator : None Response Time : N.A Think Time : N.A Minimum Instruction Time : 0**

**Correct Marks : 4 Wrong Marks : 1**

:: को एक ओर दिए गए दो शब्दों के बीच एक निश्चित सम्बन्ध है और :: के दूसरे ओर एक शब्द दिया गया है। जबकि दिए गए विकल्पों में से अन्य शब्द ज्ञात कीजिये।

उपरोक्त युग्म का चयन कीजिये:-

कार्यक्रमावली :दायित्व::संपत्ति-सूचि:-?

1. भट्टी
2. निर्यात
3. चल संपत्ति
4. उत्पादन

**Options :**

68634078073. 1  
68634078074. 2  
68634078075. 3  
68634078076. 4

**Question Number : 19 Question Id : 68634019765 Question Type : MCQ Option Shuffling : No Is Question Mandatory : No Calculator : None Response Time : N.A Think Time : N.A Minimum Instruction Time : 0**

**Correct Marks : 4 Wrong Marks : 1**

:: को एक ओर दिए गए दो शब्दों के बीच एक निश्चित सम्बन्ध है और :: के दूसरे ओर एक शब्द दिया गया है। जबकि दिए गए विकल्पों में से अन्य शब्द ज्ञात कीजिये।

उपरोक्त युग्म का चयन कीजिये:-

कार्यक्रमावली :दायित्व::संपत्ति-सूचि:-?

1. भट्टी
2. निर्यात
3. चल संपत्ति
4. उत्पादन

**Options :**

68634078073. 1  
68634078074. 2  
68634078075. 3  
68634078076. 4

**Question Number : 20 Question Id : 68634019766 Question Type : MCQ Option Shuffling : No Is Question Mandatory : No Calculator : None Response Time : N.A Think Time : N.A Minimum Instruction Time : 0**

**Correct Marks : 4 Wrong Marks : 1**

एक लड़के का परिचय कराते हुए ,एक लड़की कहती है , "यह मेरे अंकल के पिता की पुत्री का पुत्र है "  
लड़के का उस लड़की के साथ क्या संबंध है ?

1. कजिन
2. भतीजा
3. अंकल
4. दामाद

**Options :**

68634078077. 1  
68634078078. 2  
68634078079. 3  
68634078080. 4

**Question Number : 20 Question Id : 68634019766 Question Type : MCQ Option Shuffling : No Is Question Mandatory : No Calculator : None Response Time : N.A Think Time : N.A Minimum Instruction Time : 0**

**Correct Marks : 4 Wrong Marks : 1**

एक लड़के का परिचय कराते हुए ,एक लड़की कहती है , "यह मेरे अंकल के पिता की पुत्री का पुत्र है "  
लड़के का उस लड़की के साथ क्या संबंध है ?

1. कजिन
2. भतीजा
3. अंकल
4. दामाद

**Options :**

68634078077. 1  
68634078078. 2  
68634078079. 3  
68634078080. 4

**Question Number : 21 Question Id : 68634019767 Question Type : MCQ Option Shuffling : No Is Question Mandatory : No Calculator : None Response Time : N.A Think Time : N.A Minimum Instruction Time : 0**

**Correct Marks : 4 Wrong Marks : 1**

निम्न में से माउंट एवरेस्ट पर आरोहण करने वाली विश्व की सर्वप्रथम महिला दिव्यांग का नाम क्या है ?

1. जुनको तबी
2. अरुणिमा सिन्हा
3. मालावती पूना
4. एरिका बैहेन्मायर

**Options :**

68634078081. 1  
68634078082. 2  
68634078083. 3  
68634078084. 4

**Question Number : 21 Question Id : 68634019767 Question Type : MCQ Option Shuffling : No Is Question Mandatory : No Calculator : None Response Time : N.A Think Time : N.A Minimum Instruction Time : 0**

**Correct Marks : 4 Wrong Marks : 1**

निम्न में से माउंट एवरेस्ट पर आरोहण करने वाली विश्व की सर्वप्रथम महिला दिव्यांग का नाम क्या है ?

1. जुनको तबी
2. अरुणिमा सिन्हा
3. मालावती पूना
4. एरिका बैहेन्मायर

**Options :**

68634078081. 1  
68634078082. 2  
68634078083. 3  
68634078084. 4

**Question Number : 22 Question Id : 68634019768 Question Type : MCQ Option Shuffling : No Is Question Mandatory : No Calculator : None Response Time : N.A Think Time : N.A Minimum Instruction Time : 0**

**Correct Marks : 4 Wrong Marks : 1**

नीचे दो कथन दिए गए है

**कथन I :** साहित्य अकादमी पुरस्कार, भारतीय साहित्य का दूसरा सर्वोच्च पुरस्कार है। यह 22 भाषाओ में दिया जाता है।

**कथन II :** आर.के नारायण,साहित्य अकादमी पुरस्कार प्राप्त करने वाले प्रथम व्यक्ति थे। उन्हें यह पुरस्कार उनकी पुस्तक मालगुडी डेज़ के लिए प्राप्त हुआ था।

उपर्युक्त कथनों के आलोक में, दिए गए विकल्पों में से सही उत्तर का चयन कीजिए:

1. कथन I और II दोनों सत्य हैं
2. कथन I और II दोनों असत्य हैं
3. कथन I सत्य है, लेकिन कथन II असत्य हैं
4. कथन I असत्य है, लेकिन कथन II सत्य हैं

**Options :**

68634078085. 1  
68634078086. 2  
68634078087. 3  
68634078088. 4

**Question Number : 22 Question Id : 68634019768 Question Type : MCQ Option Shuffling : No Is Question Mandatory : No Calculator : None Response Time : N.A Think Time : N.A Minimum Instruction Time : 0**

**Correct Marks : 4 Wrong Marks : 1**

नीचे दो कथन दिए गए है

**कथन I :** साहित्य अकादमी पुरस्कार, भारतीय साहित्य का दूसरा सर्वोच्च पुरस्कार है। यह 22 भाषाओ में दिया जाता है।

**कथन II :** आर.के नारायण,साहित्य अकादमी पुरस्कार प्राप्त करने वाले प्रथम व्यक्ति थे। उन्हें यह पुरस्कार उनकी पुस्तक मालगुडी डेज़ के लिए प्राप्त हुआ था।

उपर्युक्त कथनों के आलोक में, दिए गए विकल्पों में से सही उत्तर का चयन कीजिए:

1. कथन I और II दोनों सत्य हैं
2. कथन I और II दोनों असत्य हैं
3. कथन I सत्य है, लेकिन कथन II असत्य हैं
4. कथन I असत्य है, लेकिन कथन II सत्य हैं

**Options :**

68634078085. 1  
68634078086. 2  
68634078087. 3  
68634078088. 4

Question Number : 23 Question Id : 68634019769 Question Type : MCQ Option Shuffling : No Is Question Mandatory : No Calculator : None Response Time : N.A Think Time : N.A Minimum Instruction Time : 0

Correct Marks : 4 Wrong Marks : 1

सूची I का सूची II से मिलान कीजिए

सूची I पुस्तक		सूची II रचयिता	
A.	मुद्रराक्षस	I.	परिणी
B.	अभिज्ञान शाकुंतलम्	II.	विशाखदत्त
C.	पंच तंत्र	III.	कालीदास
D.	अष्टाध्यायी	IV.	पं.विष्णु शर्मा

नीचे दिए गए विकल्पों में से सही उत्तर का चयन कीजिए :

1. A-I, B-II, C-III, D-IV
2. A-II, B-III, C-IV, D-I
3. A-IV, B-III, C-II, D-I
4. A-III, B-I, C-IV, D-II

Options :

68634078089. 1  
68634078090. 2  
68634078091. 3  
68634078092. 4

Question Number : 23 Question Id : 68634019769 Question Type : MCQ Option Shuffling : No Is Question Mandatory : No Calculator : None Response Time : N.A Think Time : N.A Minimum Instruction Time : 0

Correct Marks : 4 Wrong Marks : 1

सूची I का सूची II से मिलान कीजिए

सूची I पुस्तक		सूची II रचयिता	
A.	मुद्रराक्षस	I.	परिणी
B.	अभिज्ञान शाकुंतलम्	II.	विशाखदत्त
C.	पंच तंत्र	III.	कालीदास
D.	अष्टाध्यायी	IV.	पं.विष्णु शर्मा

नीचे दिए गए विकल्पों में से सही उत्तर का चयन कीजिए :

1. A-I, B-II, C-III, D-IV
2. A-II, B-III, C-IV, D-I
3. A-IV, B-III, C-II, D-I
4. A-III, B-I, C-IV, D-II

Options :

68634078089. 1  
68634078090. 2

68634078091. 3

68634078092. 4

**Question Number : 24 Question Id : 68634019770 Question Type : MCQ Option Shuffling : No Is Question Mandatory : No Calculator : None Response Time : N.A Think Time : N.A Minimum Instruction Time : 0 Correct Marks : 4 Wrong Marks : 1**

नीचे दो कथन दिए गए हैं:

**कथन I :** एक ब्लैक होल विशालकाय सितारे का एक टुटा हुआ अवशिष्ट है। यह आकाश की प्रबलता है जहाँ गुरुत्व इतना मजबूत है कि कुछ भी नहीं, यहाँ तक कि इससे भी नहीं निकल सकता।

**कथन II :** इसकी उपस्थिति की घोषणा सर्वप्रथम गैलिलियो गैलीली द्वारा 1783 में की गयी।

उपर्युक्त कथनों के आलोक में, दिए गए विकल्पों में से सही उत्तर का चयन कीजिए:

1. कथन I और II दोनों सत्य हैं
2. कथन I और II दोनों असत्य हैं
3. कथन I सत्य है, लेकिन कथन II असत्य हैं
4. कथन I असत्य है, लेकिन कथन II सत्य हैं

**Options :**

68634078093. 1

68634078094. 2

68634078095. 3

68634078096. 4

**Question Number : 24 Question Id : 68634019770 Question Type : MCQ Option Shuffling : No Is Question Mandatory : No Calculator : None Response Time : N.A Think Time : N.A Minimum Instruction Time : 0 Correct Marks : 4 Wrong Marks : 1**

नीचे दो कथन दिए गए हैं:

**कथन I :** एक ब्लैक होल विशालकाय सितारे का एक टुटा हुआ अवशिष्ट है। यह आकाश की प्रबलता है जहाँ गुरुत्व इतना मजबूत है कि कुछ भी नहीं, यहाँ तक कि इससे भी नहीं निकल सकता।

**कथन II :** इसकी उपस्थिति की घोषणा सर्वप्रथम गैलिलियो गैलीली द्वारा 1783 में की गयी।

उपर्युक्त कथनों के आलोक में, दिए गए विकल्पों में से सही उत्तर का चयन कीजिए:

1. कथन I और II दोनों सत्य हैं
2. कथन I और II दोनों असत्य हैं
3. कथन I सत्य है, लेकिन कथन II असत्य हैं
4. कथन I असत्य है, लेकिन कथन II सत्य हैं

**Options :**



68634078093. 1  
68634078094. 2  
68634078095. 3  
68634078096. 4

**Question Number : 25 Question Id : 68634019771 Question Type : MCQ Option Shuffling : No Is Question Mandatory : No Calculator : None Response Time : N.A Think Time : N.A Minimum Instruction Time : 0 Correct Marks : 4 Wrong Marks : 1**

रोलेट एक्ट 1919 में इम्पीरियल विद्यार्थी परिषद् द्वारा पारित किया गया था। जिससे कि:

1. सामान्य नागरिकों पर सीमाशुल्क और अन्य कर बढ़ाए जाने के लिए
2. सामान्य जन की बलपूर्वक सेना में भरती के लिए और ग्रामीणों को जबरदस्ती सैन्य आपूर्ति के लिए
3. सरकार को बृहत शक्ति प्रदान करने तथा किसी भी संदिग्ध को बिना किसी जांच / मुकदमा के कारावास में डाल देने के लिए
4. जातिवाद/ नस्लवाद के खिलाफ एकजुट होने वाले कर्मचारियों को गिरफ्तार करने के लिए के

**Options :**

68634078097. 1  
68634078098. 2  
68634078099. 3  
68634078100. 4

**Question Number : 25 Question Id : 68634019771 Question Type : MCQ Option Shuffling : No Is Question Mandatory : No Calculator : None Response Time : N.A Think Time : N.A Minimum Instruction Time : 0 Correct Marks : 4 Wrong Marks : 1**

रोलेट एक्ट 1919 में इम्पीरियल विद्यार्थी परिषद् द्वारा पारित किया गया था। जिससे कि:

1. सामान्य नागरिकों पर सीमाशुल्क और अन्य कर बढ़ाए जाने के लिए
2. सामान्य जन की बलपूर्वक सेना में भरती के लिए और ग्रामीणों को जबरदस्ती सैन्य आपूर्ति के लिए
3. सरकार को बृहत शक्ति प्रदान करने तथा किसी भी संदिग्ध को बिना किसी जांच / मुकदमा के कारावास में डाल देने के लिए
4. जातिवाद/ नस्लवाद के खिलाफ एकजुट होने वाले कर्मचारियों को गिरफ्तार करने के लिए के

**Options :**

68634078097. 1  
68634078098. 2  
68634078099. 3  
68634078100. 4

## **Part B: Architecture**

**Section Id :**

686340392

**Section Number :**

2

Section type :	Online
Mandatory or Optional :	Mandatory
Number of Questions :	75
Number of Questions to be attempted :	75
Section Marks :	300
Enable Mark as Answered Mark for Review and Clear Response :	Yes
Maximum Instruction Time :	0
Sub-Section Number :	1
Sub-Section Id :	686340652
Question Shuffling Allowed :	Yes
Is Section Default? :	null

**Question Number : 26 Question Id : 68634019772 Question Type : MCQ Option Shuffling : No Is Question Mandatory : No Calculator : None Response Time : N.A Think Time : N.A Minimum Instruction Time : 0 Correct Marks : 4 Wrong Marks : 1**

'Bhimbetka caves' is a famous place located in which State ?

1. Madhya Pradesh
2. Uttar pradesh
3. Rajasthan
4. Maharastra

**Options :**

68634078101. 1
68634078102. 2
68634078103. 3
68634078104. 4

**Question Number : 26 Question Id : 68634019772 Question Type : MCQ Option Shuffling : No Is Question Mandatory : No Calculator : None Response Time : N.A Think Time : N.A Minimum Instruction Time : 0 Correct Marks : 4 Wrong Marks : 1**

प्रसिद्ध 'भीमबेटका गुफा किस राज्य में स्थित है?

1. मध्य प्रदेश
2. उत्तर प्रदेश
3. राजस्थान
4. महाराष्ट्र

**Options :**

68634078101. 1
68634078102. 2
68634078103. 3
68634078104. 4

**Question Number : 27 Question Id : 68634019773 Question Type : MCQ Option Shuffling : No Is Question Mandatory : No Calculator : None Response Time : N.A Think Time : N.A Minimum Instruction Time : 0**

**Correct Marks : 4 Wrong Marks : 1**

Which among these material is not used for filtering water in Rain water Harvesting System ?

1. Sand
2. Filter Paper
3. Gravel
4. Charcoal

**Options :**

- 68634078105. 1
- 68634078106. 2
- 68634078107. 3
- 68634078108. 4

**Question Number : 27 Question Id : 68634019773 Question Type : MCQ Option Shuffling : No Is Question Mandatory : No Calculator : None Response Time : N.A Think Time : N.A Minimum Instruction Time : 0**

**Correct Marks : 4 Wrong Marks : 1**

वर्षा के पानी के संरक्षण की विधि में निम्नलिखित में से कौन सी वस्तु पानी साफ करने के लिए उपयोग नहीं की जाती

1. रेत
2. फिल्टर पेपर
3. ग्रेवल
4. चारकॉल (चारकोल)

**Options :**

- 68634078105. 1
- 68634078106. 2
- 68634078107. 3
- 68634078108. 4

**Question Number : 28 Question Id : 68634019774 Question Type : MCQ Option Shuffling : No Is Question Mandatory : No Calculator : None Response Time : N.A Think Time : N.A Minimum Instruction Time : 0**

**Correct Marks : 4 Wrong Marks : 1**

Kenzo Tange developed the concept of -

1. Deconstructivism
2. Arcology
3. Metabolism
4. Anamorphosis

**Options :**

- 68634078109. 1
- 68634078110. 2
- 68634078111. 3
- 68634078112. 4

**Question Number : 28 Question Id : 68634019774 Question Type : MCQ Option Shuffling : No Is Question Mandatory : No Calculator : None Response Time : N.A Think Time : N.A Minimum Instruction Time : 0**

**Correct Marks : 4 Wrong Marks : 1**

कैन्जो टांगे ने कौन सी अवधारणा विकसित की थी-

- 1. डी कंस्ट्रक्शन
- 2. पुरातत्व
- 3. मेटाबोलिजिम
- 4. शरीर रचना (अवधारणा रूपंतरण)

**Options :**

- 68634078109. 1
- 68634078110. 2
- 68634078111. 3
- 68634078112. 4

**Question Number : 29 Question Id : 68634019775 Question Type : MCQ Option Shuffling : No Is Question Mandatory : No Calculator : None Response Time : N.A Think Time : N.A Minimum Instruction Time : 0**

**Correct Marks : 4 Wrong Marks : 1**

Name the fort of Rajasthan that is known as 'Sonar Kila'

- 1. Kumbhalgarh fort
- 2. Jaisalmer fort
- 3. Mehrangarh fort
- 4. Nahargarh fort

**Options :**

- 68634078113. 1
- 68634078114. 2
- 68634078115. 3
- 68634078116. 4

**Question Number : 29 Question Id : 68634019775 Question Type : MCQ Option Shuffling : No Is Question Mandatory : No Calculator : None Response Time : N.A Think Time : N.A Minimum Instruction Time : 0**

**Correct Marks : 4 Wrong Marks : 1**

राजस्थान के किस किले को 'सोना का किला' (से जाना जाता है) कहा जाता है।

1. कुंभलगढ़ का किला
2. जैसलमेर का किला
3. मेहरानगढ़ का किला
4. नाहरगढ़ का किला

**Options :**

68634078113. 1  
68634078114. 2  
68634078115. 3  
68634078116. 4

**Question Number : 30 Question Id : 68634019776 Question Type : MCQ Option Shuffling : No Is Question Mandatory : No Calculator : None Response Time : N.A Think Time : N.A Minimum Instruction Time : 0**

**Correct Marks : 4 Wrong Marks : 1**

Which of the following monuments are under UNESCO world heritage site ?

- A. Temples of Khajuraho
- B. Lotus temple, New Delhi
- C. Kamakhya temple ,Assam
- D. Brihadeeshwara temple ,Thanjavur

choose the most appropriate answer from the option given below :

1. A only
2. B & C only
3. D & C only
4. A & D only

**Options :**

68634078117. 1  
68634078118. 2  
68634078119. 3  
68634078120. 4

**Question Number : 30 Question Id : 68634019776 Question Type : MCQ Option Shuffling : No Is Question Mandatory : No Calculator : None Response Time : N.A Think Time : N.A Minimum Instruction Time : 0**

**Correct Marks : 4 Wrong Marks : 1**

निम्नलिखित स्मारकों में से यूनेस्को द्वारा विश्व धरोहर के अंतर्गत लिया गया है।

- A. खजुराहो का मंदिर
- B. लोटस टेम्पल, नई दिल्ली
- C. कामाख्या मंदिर, असम
- D. बृहदेश्वर मंदिर, तंजावुर

नीचे दिए गए विकल्पों में से सबसे उपयुक्त उत्तर का चयन कीजिए-

- 1. केवल A
- 2. केवल B और C
- 3. केवल D और C
- 4. केवल A और D

**Options :**

- 68634078117. 1
- 68634078118. 2
- 68634078119. 3
- 68634078120. 4

**Question Number : 31 Question Id : 68634019777 Question Type : MCQ Option Shuffling : No Is Question Mandatory : No Calculator : None Response Time : N.A Think Time : N.A Minimum Instruction Time : 0 Correct Marks : 4 Wrong Marks : 1**

Griha is rating for green building given by:

- 1. The Energy Research Institute
- 2. Ministry of Power
- 3. Bureau of Energy Efficiency
- 4. IGBC

**Options :**

- 68634078121. 1
- 68634078122. 2
- 68634078123. 3
- 68634078124. 4

**Question Number : 31 Question Id : 68634019777 Question Type : MCQ Option Shuffling : No Is Question Mandatory : No Calculator : None Response Time : N.A Think Time : N.A Minimum Instruction Time : 0 Correct Marks : 4 Wrong Marks : 1**

गृहा, ग्रीन इमारत के लिए दी जाने वाली रेटिंग है जो देती है

1. ऊर्जा अनुसंधान संस्था
2. बिजली मंत्रालय
3. ऊर्जा दक्षता ब्यूरो
4. आई जी बी सी

**Options :**

68634078121. 1  
68634078122. 2  
68634078123. 3  
68634078124. 4

**Question Number : 32 Question Id : 68634019778 Question Type : MCQ Option Shuffling : No Is Question Mandatory : No Calculator : None Response Time : N.A Think Time : N.A Minimum Instruction Time : 0**

**Correct Marks : 4 Wrong Marks : 1**

National Capital Region is spread over

1. Union Territory of Delhi
2. Delhi and part of Uttar Pradesh
3. Delhi and part of Haryana
4. Union territory of Delhi ,Part of Uttar Pradesh ,Part of Haryana and Rajasthan

**Options :**

68634078125. 1  
68634078126. 2  
68634078127. 3  
68634078128. 4

**Question Number : 32 Question Id : 68634019778 Question Type : MCQ Option Shuffling : No Is Question Mandatory : No Calculator : None Response Time : N.A Think Time : N.A Minimum Instruction Time : 0**

**Correct Marks : 4 Wrong Marks : 1**

राष्ट्रीय राजधानी भू-भाग कहाँ तक फैला है-

1. केंद्र शासित प्रदेश दिल्ली
2. दिल्ली और उत्तर प्रदेश का भाग
3. दिल्ली और हरियाणा का भू-भाग
4. केंद्र शासित प्रदेश दिल्ली, उत्तर प्रदेश का भाग, राजस्थान और हरियाणा का भाग

**Options :**

68634078125. 1

68634078126. 2

68634078127. 3

68634078128. 4

**Question Number : 33 Question Id : 68634019779 Question Type : MCQ Option Shuffling : No Is Question Mandatory : No Calculator : None Response Time : N.A Think Time : N.A Minimum Instruction Time : 0**

**Correct Marks : 4 Wrong Marks : 1**

The focus of Florence charter is -

1. Conservation of places of culture Significance
2. Conservation and restoration of Monuments & Sites.
3. Conservation of historic town
4. Conservation of historic gardens.

**Options :**

68634078129. 1

68634078130. 2

68634078131. 3

68634078132. 4

**Question Number : 33 Question Id : 68634019779 Question Type : MCQ Option Shuffling : No Is Question Mandatory : No Calculator : None Response Time : N.A Think Time : N.A Minimum Instruction Time : 0**

**Correct Marks : 4 Wrong Marks : 1**

फ्लोरेंस चार्टर का ध्यान किस पर है -

1. सांस्कृतिक विशेषता और स्थानों का संरक्षण
2. स्मारकों का पुनः निर्माण और संरचना
3. ऐतिहासिक नगरों का संरक्षण
4. ऐतिहासिक पार्कों का संरक्षण

**Options :**

68634078129. 1

68634078130. 2

68634078131. 3

68634078132. 4

**Question Number : 34 Question Id : 68634019780 Question Type : MCQ Option Shuffling : No Is Question Mandatory : No Calculator : None Response Time : N.A Think Time : N.A Minimum Instruction Time : 0**

**Correct Marks : 4 Wrong Marks : 1**



An applied science of Design conserving universal human character and configurations aiming at effective utility and safety is called .

1. Anthropometry
2. Universal Design
3. Parametric Design
4. Biophilic Design

**Options :**

- 68634078133. 1
- 68634078134. 2
- 68634078135. 3
- 68634078136. 4

**Question Number : 34 Question Id : 68634019780 Question Type : MCQ Option Shuffling : No Is Question Mandatory : No Calculator : None Response Time : N.A Think Time : N.A Minimum Instruction Time : 0**

**Correct Marks : 4 Wrong Marks : 1**

अनुप्रयुक्त विज्ञान की रचना के अनुसार वैखिक मनुष्य के चरित्र और विन्यास की प्रभावी उपयोगिता और सुरक्षा क्या कहलाता है-

1. मानवभित्ति
2. वैखिक संरचना
3. पैरामिट्रिक संरचना
4. बायो फिलिक संरचना

**Options :**

- 68634078133. 1
- 68634078134. 2
- 68634078135. 3
- 68634078136. 4

**Question Number : 35 Question Id : 68634019781 Question Type : MCQ Option Shuffling : No Is Question Mandatory : No Calculator : None Response Time : N.A Think Time : N.A Minimum Instruction Time : 0**

**Correct Marks : 4 Wrong Marks : 1**

Identify the renewable energy Commonly sourced at residence level.

1. Solar
2. Wind
3. Tidal
4. Geo Thermal

**Options :**

68634078137. 1  
68634078138. 2  
68634078139. 3  
68634078140. 4

**Question Number : 35 Question Id : 68634019781 Question Type : MCQ Option Shuffling : No Is Question Mandatory : No Calculator : None Response Time : N.A Think Time : N.A Minimum Instruction Time : 0 Correct Marks : 4 Wrong Marks : 1**

आवासीय स्तर पर सबसे आमतौर पर मिलाने वाली नावीनी करणीय ऊर्जा कौन सी है

1. तापीय ऊर्जा
2. पवन ऊर्जा
3. ज्वार ऊर्जा
4. भू-ताप

**Options :**

68634078137. 1  
68634078138. 2  
68634078139. 3  
68634078140. 4

**Question Number : 36 Question Id : 68634019782 Question Type : MCQ Option Shuffling : No Is Question Mandatory : No Calculator : None Response Time : N.A Think Time : N.A Minimum Instruction Time : 0 Correct Marks : 4 Wrong Marks : 1**

The book by Ebenezer Howard published in 1898 and Relevant today as well-

1. To-morrow: A peaceful path to Real Reform.
2. Garden city of To-morrow
3. Model Garden cities of To-morrow
4. Garden Suburb of London

**Options :**

68634078141. 1  
68634078142. 2  
68634078143. 3  
68634078144. 4

**Question Number : 36 Question Id : 68634019782 Question Type : MCQ Option Shuffling : No Is Question Mandatory : No Calculator : None Response Time : N.A Think Time : N.A Minimum Instruction Time : 0 Correct Marks : 4 Wrong Marks : 1**

'एबन्जर हार्वड' के द्वारा 1898 में एक पुस्तक लिखी जो आज से मिलती है

1. टूमॉरो : ए पीसफुल पाथ टू रीयल रिफार्म
2. गार्डन सिटीज ऑफ टूमॉरो
3. मॉडल गार्डन सिटीज ऑफ टूमॉरो
4. गार्डन सबरभ ऑफ टूमॉरो

**Options :**

- 68634078141. 1
- 68634078142. 2
- 68634078143. 3
- 68634078144. 4

**Question Number : 37 Question Id : 68634019783 Question Type : MCQ Option Shuffling : No Is Question Mandatory : No Calculator : None Response Time : N.A Think Time : N.A Minimum Instruction Time : 0**

**Correct Marks : 4 Wrong Marks : 1**

The 73<sup>rd</sup> and 74<sup>th</sup> constitution Amendments Pertain to

1. Abolishing urban land ceiling Act Panchayat
2. Providing more responsibilities to Municipal and local bodies for planning and development
3. Providing restricted role to rural courts to settle rural disputes.
4. Providing right to information for the general people

**Options :**

- 68634078145. 1
- 68634078146. 2
- 68634078147. 3
- 68634078148. 4

**Question Number : 37 Question Id : 68634019783 Question Type : MCQ Option Shuffling : No Is Question Mandatory : No Calculator : None Response Time : N.A Think Time : N.A Minimum Instruction Time : 0**

**Correct Marks : 4 Wrong Marks : 1**

संविधान में 73 वां और 74 वां संशोधन किसे दर्शाता है-

1. शहरी जमीन सीमा को समाप्त करना
2. योजनाओं और विकास के लिए पंचायत और नगर पालिकाओं के जिम्मेदारी बढ़ाना
3. गाँव के झगड़ों को सुलझाने में ही ग्राम पंचायतों की भूमिका सिमित करना
4. आम आदमी को सूचना का अधिकार देना

**Options :**

- 68634078145. 1

68634078146. 2

68634078147. 3

68634078148. 4

**Question Number : 38 Question Id : 68634019784 Question Type : MCQ Option Shuffling : No Is Question Mandatory : No Calculator : None Response Time : N.A Think Time : N.A Minimum Instruction Time : 0**

**Correct Marks : 4 Wrong Marks : 1**

Indus Valley Civilization is Specially known for :-

1. Vaulted roofing in Masonary
2. Underground drainage system
3. Great palaces
4. Stone carvings of idols

**Options :**

68634078149. 1

68634078150. 2

68634078151. 3

68634078152. 4

**Question Number : 38 Question Id : 68634019784 Question Type : MCQ Option Shuffling : No Is Question Mandatory : No Calculator : None Response Time : N.A Think Time : N.A Minimum Instruction Time : 0**

**Correct Marks : 4 Wrong Marks : 1**

सिन्धु घाटी सभ्यता किस लिए प्रसिद्ध है

1. चिनाई की वाल्ट की छत
2. भूमिगत जल निकासी प्रणाली
3. महान स्थान
4. पत्थरों पर नक्कासी (पत्थरों पर मूर्ति नक्कासी)

**Options :**

68634078149. 1

68634078150. 2

68634078151. 3

68634078152. 4

**Question Number : 39 Question Id : 68634019785 Question Type : MCQ Option Shuffling : No Is Question Mandatory : No Calculator : None Response Time : N.A Think Time : N.A Minimum Instruction Time : 0**

**Correct Marks : 4 Wrong Marks : 1**

Given below are two statements :one is labelled as Assertion A and the other is labelled as Reason R

**Assertion A:** Banyan tree ,Peepal tree, Imli tree and Ashok tree are preferred on road side Plantation

**Reason R:** They are considered for their likely potential for pollution control.

in the light of the above statements ,choose the most appropriate answer from the option given below.

1. Both A and R are true and R is the correct explanation of A
2. Both A and R are true but R is NOT the correct explanation of A
3. A is correct but R is not correct
4. A is not correct but R is correct

**Options :**

68634078153. 1  
68634078154. 2  
68634078155. 3  
68634078156. 4

**Question Number : 39 Question Id : 68634019785 Question Type : MCQ Option Shuffling : No Is Question Mandatory : No Calculator : None Response Time : N.A Think Time : N.A Minimum Instruction Time : 0**

**Correct Marks : 4 Wrong Marks : 1**

नीचे दो कथन दिए गए हैं, एक अभिकथन A के रूप में लिखित है तो दूसरा उसके कारण R के रूप में;

**अभिकथन A:** बरगद का पेड़, पीपल का पेड़ और अशोक का पेड़ सड़क के किनारे पर लगाए जाती हैं।

**कारण R:** ये पेड़ इस लिए लगाए जाते हैं क्योंकि प्रदूषण कम करने की संभावना ज्यादा है।

उपरोक्त कथन के आलोक में, नीचे दिए गए विकल्पों में से सबसे उपयुक्त उत्तर का चयन कीजिए:

1. A और R दोनों सही हैं और R, A की सही व्याख्या है
2. A और R दोनों सही हैं और R, A की सही व्याख्या नहीं है
3. A सही है लेकिन R सही नहीं है
4. A सही नहीं है लेकिन R सही है

**Options :**

68634078153. 1  
68634078154. 2  
68634078155. 3  
68634078156. 4

**Question Number : 40 Question Id : 68634019786 Question Type : MCQ Option Shuffling : No Is Question Mandatory : No Calculator : None Response Time : N.A Think Time : N.A Minimum Instruction Time : 0**

**Correct Marks : 4 Wrong Marks : 1**

Which of the following generate heat Island ?

1. Urban Area
2. Coastal Area
3. Wet land
4. Desert Land

**Options :**

68634078157. 1  
68634078158. 2  
68634078159. 3  
68634078160. 4

**Question Number : 40 Question Id : 68634019786 Question Type : MCQ Option Shuffling : No Is Question Mandatory : No Calculator : None Response Time : N.A Think Time : N.A Minimum Instruction Time : 0**

**Correct Marks : 4 Wrong Marks : 1**

निम्नलिखित में से कौन-सा गर्म द्वीप बनाता है?

1. शहरी क्षेत्र
2. तटीय क्षेत्र
3. आद्र भूमि
4. रेतीली भूमि

**Options :**

68634078157. 1  
68634078158. 2  
68634078159. 3  
68634078160. 4

**Question Number : 41 Question Id : 68634019787 Question Type : MCQ Option Shuffling : No Is Question Mandatory : No Calculator : None Response Time : N.A Think Time : N.A Minimum Instruction Time : 0**

**Correct Marks : 4 Wrong Marks : 1**

What is the full form of PERT ?

1. Project Evaluation Review Technique
2. Programme Evaluation Rating Technique
3. Programme Evaluation Review Technique
4. Project Evaluation Rating Technique

**Options :**

68634078161. 1  
68634078162. 2

68634078163. 3

68634078164. 4

**Question Number : 41 Question Id : 68634019787 Question Type : MCQ Option Shuffling : No Is Question Mandatory : No Calculator : None Response Time : N.A Think Time : N.A Minimum Instruction Time : 0 Correct Marks : 4 Wrong Marks : 1**

PERT का पूर्ण पत्रक रूप में लिखे

1. प्रोजेक्ट इवेलूएशन रीव्यू टेकनिक
2. प्रोग्राम इवेलूएशन रेटिंग टेकनिक
3. प्रोग्राम इवेलूएशन रीव्यू टेकनिक
4. प्रोजेक्ट इवेलूएशन रेटिंग टेकनिक

**Options :**

68634078161. 1

68634078162. 2

68634078163. 3

68634078164. 4

**Question Number : 42 Question Id : 68634019788 Question Type : MCQ Option Shuffling : No Is Question Mandatory : No Calculator : None Response Time : N.A Think Time : N.A Minimum Instruction Time : 0 Correct Marks : 4 Wrong Marks : 1**

As per India Road Congress the 'Width of formation' of National highway in plain land is:

1. 6.0 m
2. 12.0 m
3. 15.0 m
4. 18.0m

**Options :**

68634078165. 1

68634078166. 2

68634078167. 3

68634078168. 4

**Question Number : 42 Question Id : 68634019788 Question Type : MCQ Option Shuffling : No Is Question Mandatory : No Calculator : None Response Time : N.A Think Time : N.A Minimum Instruction Time : 0 Correct Marks : 4 Wrong Marks : 1**

इंडिया रोड कांग्रेस के अनुसार राष्ट्रीय राजमार्ग की समतल भू-भाग में कितनी चौड़ाई होनी चाहिए?

1. 6.0 मीटर
2. 12.0 मीटर
3. 15.0 मीटर
4. 18.0 मीटर

**Options :**

- 68634078165. 1
- 68634078166. 2
- 68634078167. 3
- 68634078168. 4

**Question Number : 43 Question Id : 68634019789 Question Type : MCQ Option Shuffling : No Is Question Mandatory : No Calculator : None Response Time : N.A Think Time : N.A Minimum Instruction Time : 0 Correct Marks : 4 Wrong Marks : 1**

Which of the following are the elements of Mosque architecture .

- A. Minbar
- B. Mandala
- C. Qibla
- D. Mehrab
- E. Vihara

1. A and D
2. A and C
3. A, B, and C
4. A, C and D

**Options :**

- 68634078169. 1
- 68634078170. 2
- 68634078171. 3
- 68634078172. 4

**Question Number : 43 Question Id : 68634019789 Question Type : MCQ Option Shuffling : No Is Question Mandatory : No Calculator : None Response Time : N.A Think Time : N.A Minimum Instruction Time : 0 Correct Marks : 4 Wrong Marks : 1**



निम्नलिखित मेंसे कौन-सा तत्व मस्जिद वास्तु कला से संबंधित है-

- A. मिनबार
- B. मंडला
- C. किबला
- D. मेहराब
- E. विहार

नीचे दिए गए विकल्पों में से सही उत्तर का चयन कीजिए

1. A और D
2. A और C
3. A, B, और C
4. A, C और D

**Options :**

- 68634078169. 1
- 68634078170. 2
- 68634078171. 3
- 68634078172. 4

**Question Number : 44 Question Id : 68634019790 Question Type : MCQ Option Shuffling : No Is Question Mandatory : No Calculator : None Response Time : N.A Think Time : N.A Minimum Instruction Time : 0 Correct Marks : 4 Wrong Marks : 1**

Which of the following trees has columnar form?

1. Delonix Regia
2. Tamaribdus indica
3. Polyalthia Longifolia
4. Callistemon Lanceolatus

**Options :**

- 68634078173. 1
- 68634078174. 2
- 68634078175. 3
- 68634078176. 4

**Question Number : 44 Question Id : 68634019790 Question Type : MCQ Option Shuffling : No Is Question Mandatory : No Calculator : None Response Time : N.A Think Time : N.A Minimum Instruction Time : 0 Correct Marks : 4 Wrong Marks : 1**

निम्नलिखित में कौन-सा पेड़ (वृक्ष) स्तंभदार है

1. डेलोनिकस रजिया
2. इमली इंडिका
3. पाली एथिया लोगिफीलिया
4. कैलिस्टीनियोन लेनक्लिलेटस

**Options :**

68634078173. 1  
68634078174. 2  
68634078175. 3  
68634078176. 4

**Question Number : 45 Question Id : 68634019791 Question Type : MCQ Option Shuffling : No Is Question Mandatory : No Calculator : None Response Time : N.A Think Time : N.A Minimum Instruction Time : 0**

**Correct Marks : 4 Wrong Marks : 1**

In Islamic Architecture, the circular dome was constructed over a square configuration through

1. Grid iron coffered slab.
2. Pendentives and squenels Arches.
3. Double Barrel Vault and Jack Arches
4. Horizontal Cross tie members

**Options :**

68634078177. 1  
68634078178. 2  
68634078179. 3  
68634078180. 4

**Question Number : 45 Question Id : 68634019791 Question Type : MCQ Option Shuffling : No Is Question Mandatory : No Calculator : None Response Time : N.A Think Time : N.A Minimum Instruction Time : 0**

**Correct Marks : 4 Wrong Marks : 1**

इस्लामिक वास्तुकला में किस के द्वारा एक वर्गाकार विन्यास के ऊपर एक वृत्ताकार गुंबद बनाया जाता है।

1. ग्रीड आयरन कॉफराड स्लैब
2. पेन्डंतीव एंड सीकिउन्सेयिल आर्क
3. डबल बैरल वाल्ट एण्ड जैक आर्क
4. हारीजें टल क्रास टाई मेम्बर

**Options :**

68634078177. 1

68634078178. 2

68634078179. 3

68634078180. 4

**Question Number : 46 Question Id : 68634019792 Question Type : MCQ Option Shuffling : No Is Question Mandatory : No Calculator : None Response Time : N.A Think Time : N.A Minimum Instruction Time : 0**

**Correct Marks : 4 Wrong Marks : 1**

In case of residential apartments ,the effective floor area available for use within an apartment ,is know as:

1. Carpet Area
2. Built up Area
3. Plinth area
4. Super Built up area

**Options :**

68634078181. 1

68634078182. 2

68634078183. 3

68634078184. 4

**Question Number : 46 Question Id : 68634019792 Question Type : MCQ Option Shuffling : No Is Question Mandatory : No Calculator : None Response Time : N.A Think Time : N.A Minimum Instruction Time : 0**

**Correct Marks : 4 Wrong Marks : 1**

एक आवासीय अपार्टमेन्ट के संदर्भ में, अपार्टमेन्ट के अन्दर का प्रभावी फ्लोर का क्षेत्रफल जो उपयोग के लिए पर्याप्त है, उसे क्या कहा जाता है।

1. कार्पेट एरिया
2. बिल्ट -अप एरिया
3. प्लिथ एरिया
4. सुपर बिल्ट-अप एरिया

**Options :**

68634078181. 1

68634078182. 2

68634078183. 3

68634078184. 4

**Question Number : 47 Question Id : 68634019793 Question Type : MCQ Option Shuffling : No Is Question Mandatory : No Calculator : None Response Time : N.A Think Time : N.A Minimum Instruction Time : 0**

**Correct Marks : 4 Wrong Marks : 1**

The minimum road curb length required for parking ,10 cars perpendicular to the road is:

1. 15 m
2. 25 m
3. 40 m
4. 50 m

**Options :**

- 68634078185. 1
- 68634078186. 2
- 68634078187. 3
- 68634078188. 4

**Question Number : 47 Question Id : 68634019793 Question Type : MCQ Option Shuffling : No Is Question Mandatory : No Calculator : None Response Time : N.A Think Time : N.A Minimum Instruction Time : 0**

**Correct Marks : 4 Wrong Marks : 1**

सड़क पर पार्किंग के लिए कम से कम नियंत्रण लम्बाई कितनी होनी चाहिए जबकि 10 कारें सड़क के लम्बवत है

1. 15 मीटर
2. 25 मीटर
3. 40 मीटर
4. 50 मीटर

**Options :**

- 68634078185. 1
- 68634078186. 2
- 68634078187. 3
- 68634078188. 4

**Question Number : 48 Question Id : 68634019794 Question Type : MCQ Option Shuffling : No Is Question Mandatory : No Calculator : None Response Time : N.A Think Time : N.A Minimum Instruction Time : 0**

**Correct Marks : 4 Wrong Marks : 1**

Given below are two statements :

**Statement I** : Concept of serial vision has been applied to the layout of Rashtrapati Bhawan Complex ,New Delhi.

**Statement II** : Rashtrapati Bhawan Complex was designed by Edwin Lutyen.

In the light of the above statements, choose the most appropriate answer from the options given below :

1. Both Statement I and Statement II are correct
2. Both Statement I and Statement II are incorrect
3. Statement I is correct but Statement II is incorrect
4. Statement I is incorrect but Statement II is correct

**Options :**

68634078189. 1  
68634078190. 2  
68634078191. 3  
68634078192. 4

**Question Number : 48 Question Id : 68634019794 Question Type : MCQ Option Shuffling : No Is Question Mandatory : No Calculator : None Response Time : N.A Think Time : N.A Minimum Instruction Time : 0**

**Correct Marks : 4 Wrong Marks : 1**

नीचे दो कथन दिए गए हैं:

**कथन I-** नई दिल्ली में राष्ट्रपति भवन परिसर की रूप रेखा तैयार करने के लिए बहुत संप्रत्यय लागू किए।

**कथन II-** 'एडविन ल्यूटेन' ने राष्ट्रपति परिसर की रचना तैयार की थी

उपरोक्त कथन के आलोक में, नीचे दिए गए विकल्पों में से सबसे उपयुक्त उत्तर का चयन कीजिए:

1. कथन I और कथन II दोनों सत्य हैं
2. कथन I और कथन II दोनों असत्य हैं
3. कथन I सत्य है, लेकिन कथन II असत्य है
4. कथन I असत्य है, लेकिन कथन II सत्य है

**Options :**

68634078189. 1  
68634078190. 2  
68634078191. 3  
68634078192. 4

**Question Number : 49 Question Id : 68634019795 Question Type : MCQ Option Shuffling : No Is Question Mandatory : No Calculator : None Response Time : N.A Think Time : N.A Minimum Instruction Time : 0**

**Correct Marks : 4 Wrong Marks : 1**

Bahai Temple in Delhi is a

1. Tensile Structure
2. Shell Structure
3. Pneumatic Structure
4. Space Structure

**Options :**

- 68634078193. 1
- 68634078194. 2
- 68634078195. 3
- 68634078196. 4

**Question Number : 49 Question Id : 68634019795 Question Type : MCQ Option Shuffling : No Is Question Mandatory : No Calculator : None Response Time : N.A Think Time : N.A Minimum Instruction Time : 0**

**Correct Marks : 4 Wrong Marks : 1**

दिल्ली का बहाई मंदिर एक -

1. टेक्साइल ढाँचा है
2. शैल ढाँचा है
3. पैनुमैटिक ढाँचा है
4. स्पेस ढाँचा है

**Options :**

- 68634078193. 1
- 68634078194. 2
- 68634078195. 3
- 68634078196. 4

**Question Number : 50 Question Id : 68634019796 Question Type : MCQ Option Shuffling : No Is Question Mandatory : No Calculator : None Response Time : N.A Think Time : N.A Minimum Instruction Time : 0**

**Correct Marks : 4 Wrong Marks : 1**

The minimum area of a combined bath and W.C, as specified in the National Building code of India is-

1. 2.5 Sqmt
2. 2.8 Sqmt
3. 3.0 Sqmt
4. 3.2 Sqmt

**Options :**

- 68634078197. 1

68634078198. 2

68634078199. 3

68634078200. 4

**Question Number : 50 Question Id : 68634019796 Question Type : MCQ Option Shuffling : No Is Question Mandatory : No Calculator : None Response Time : N.A Think Time : N.A Minimum Instruction Time : 0**

**Correct Marks : 4 Wrong Marks : 1**

नेशनल बिल्डिंग कोड के अनुसार जुड़े हुए स्नानागार और शौचालय के लिए न्यूनतम क्षेत्र क्या है-

1. 2.5 वर्गफीट

2. 2.8 वर्गफीट

3. 3.0 वर्गफीट

4. 3.2 वर्गफीट

**Options :**

68634078197. 1

68634078198. 2

68634078199. 3

68634078200. 4

**Question Number : 51 Question Id : 68634019797 Question Type : MCQ Option Shuffling : No Is Question Mandatory : No Calculator : None Response Time : N.A Think Time : N.A Minimum Instruction Time : 0**

**Correct Marks : 4 Wrong Marks : 1**

Which of the following is an important Variable to study for urban planning so as to develop Urban infrastructure.

1. Land use planning

2. Noise Mapping

3. Vegetation Mapping

4. Activity Mapping

**Options :**

68634078201. 1

68634078202. 2

68634078203. 3

68634078204. 4

**Question Number : 51 Question Id : 68634019797 Question Type : MCQ Option Shuffling : No Is Question Mandatory : No Calculator : None Response Time : N.A Think Time : N.A Minimum Instruction Time : 0**

**Correct Marks : 4 Wrong Marks : 1**

शहरी परियोजना की शिक्षा के अनुसार शहरी विकास की आधारभूत संरचना के लिए कौन सा भाग सबसे जरूरी है।

1. भूमि उपयोग योजना
2. ध्वनि मानचित्रण
3. वनस्पति मानचित्रण
4. गतिविधि मानचित्रण

**Options :**

68634078201. 1
68634078202. 2
68634078203. 3
68634078204. 4

**Question Number : 52 Question Id : 68634019798 Question Type : MCQ Option Shuffling : No Is Question Mandatory : No Calculator : None Response Time : N.A Think Time : N.A Minimum Instruction Time : 0**

**Correct Marks : 4 Wrong Marks : 1**

'V7' Concept given by Le Corbusier refers to :

1. Neighbourhood Planning.
2. Housing Typologies
3. Hierarchy of Roads
4. Transport Planning

**Options :**

68634078205. 1
68634078206. 2
68634078207. 3
68634078208. 4

**Question Number : 52 Question Id : 68634019798 Question Type : MCQ Option Shuffling : No Is Question Mandatory : No Calculator : None Response Time : N.A Think Time : N.A Minimum Instruction Time : 0**

**Correct Marks : 4 Wrong Marks : 1**

'ली कोर्बुजियर' के द्वारा दी गई 'V7' अवधारणा किसे प्रदर्शित करती है।

1. पड़ोस टाइपोलाजी
2. आवास की टाइपोलाजी
3. सड़कों का पदानुक्रम
4. परिवहन योजना

**Options :**

68634078205. 1



68634078206. 2

68634078207. 3

68634078208. 4

**Question Number : 53 Question Id : 68634019799 Question Type : MCQ Option Shuffling : No Is Question Mandatory : No Calculator : None Response Time : N.A Think Time : N.A Minimum Instruction Time : 0**

**Correct Marks : 4 Wrong Marks : 1**

In GIS the set of entities representing Vector data type is

1. Point , Line, Polygon, Tin
2. Pixel, Voxel
3. DEM, DSM, DTM
4. Coordinates , Elevation slope

**Options :**

68634078209. 1

68634078210. 2

68634078211. 3

68634078212. 4

**Question Number : 53 Question Id : 68634019799 Question Type : MCQ Option Shuffling : No Is Question Mandatory : No Calculator : None Response Time : N.A Think Time : N.A Minimum Instruction Time : 0**

**Correct Marks : 4 Wrong Marks : 1**

जी आई एस में वेक्टर, डेटा के प्रकार का प्रतिनिधित्व करने वाली संख्याओं का संगठन

1. प्वाइंट, लाइन, पॉलिगॉन, टीन
2. पिक्सल, वोक्सल
3. डीईम, डी. एस. एम., डी. टी. एम.
4. समन्वय, उन्नयन ढलान

**Options :**

68634078209. 1

68634078210. 2

68634078211. 3

68634078212. 4

**Question Number : 54 Question Id : 68634019800 Question Type : MCQ Option Shuffling : No Is Question Mandatory : No Calculator : None Response Time : N.A Think Time : N.A Minimum Instruction Time : 0**

**Correct Marks : 4 Wrong Marks : 1**

The fire rating of Reinforced glass doors, is expressed in.

1. Kcal
2. Hour
3. Watt
4. Lux

**Options :**

68634078213. 1  
68634078214. 2  
68634078215. 3  
68634078216. 4

**Question Number : 54 Question Id : 68634019800 Question Type : MCQ Option Shuffling : No Is Question Mandatory : No Calculator : None Response Time : N.A Think Time : N.A Minimum Instruction Time : 0**

**Correct Marks : 4 Wrong Marks : 1**

प्रवलित कांच के दरवाजे के, आग के प्रति दर निर्धारण किसमें मापते हैं।

1. Kcal
2. घंटा
3. वाट
4. लूख

**Options :**

68634078213. 1  
68634078214. 2  
68634078215. 3  
68634078216. 4

**Question Number : 55 Question Id : 68634019801 Question Type : MCQ Option Shuffling : No Is Question Mandatory : No Calculator : None Response Time : N.A Think Time : N.A Minimum Instruction Time : 0**

**Correct Marks : 4 Wrong Marks : 1**

A class room of 12 mt × 25 mt × 4 mt requires 3 air changes per hour .At an air Velocity of 2m/s, the necessary duct corss section (in m<sup>2</sup>) is -

1. 0.50
2. 0.75
3. 1.00
4. 1.25

**Options :**

68634078217. 1

68634078218. 2

68634078219. 3

68634078220. 4

**Question Number : 55 Question Id : 68634019801 Question Type : MCQ Option Shuffling : No Is Question Mandatory : No Calculator : None Response Time : N.A Think Time : N.A Minimum Instruction Time : 0**

**Correct Marks : 4 Wrong Marks : 1**

किसी कक्षा के कमरे का आकार 12 मी. × 25 मी. × 4 मी. है जिसमें हवा बदलने के लिए 3 घंटे की जरूरत है हवा की गति 2 मी. / सेकेंड है तो डक्ट का पार अनुभागी क्या होगा।

1. 0.50

2. 0.75

3. 1.00

4. 1.25

**Options :**

68634078217. 1

68634078218. 2

68634078219. 3

68634078220. 4

**Question Number : 56 Question Id : 68634019802 Question Type : MCQ Option Shuffling : No Is Question Mandatory : No Calculator : None Response Time : N.A Think Time : N.A Minimum Instruction Time : 0**

**Correct Marks : 4 Wrong Marks : 1**

Which of the following is not a requirement for fire exit ?

1. Entrance to the fire escape shall be separated and remote from the internal staircase

2. The route to fire escape shall be free of obstructions at all times except the doorway leading to the fire escape which shall have the required fire resistance

3. Fire escape should be located in the centre of the bldg

4. Fire escape should be constructed of non combustible material

**Options :**

68634078221. 1

68634078222. 2

68634078223. 3

68634078224. 4

**Question Number : 56 Question Id : 68634019802 Question Type : MCQ Option Shuffling : No Is Question Mandatory : No Calculator : None Response Time : N.A Think Time : N.A Minimum Instruction Time : 0**

**Correct Marks : 4 Wrong Marks : 1**

निम्नलिखित में से कौनसा एक आवश्यक अग्नि निकास नहीं है ?

1. अग्नि निकास मुख्य द्वार से अलग होना चाहिए और आंतरिक सीढ़ियों से दूर होना चाहिए
2. अग्नि निकास के रास्ते में किसी भी समय कोई रुकावट नहीं होनी चाहिए और जो दरवाजा अग्नि निकास की तरफ जाता है वह दरवाजा आग अवरोधित होना चाहिए।
3. अग्नि निकास इमारत के बीच में होना चाहिए।
4. अग्नि निकास हमेशा गैर ज्वलनशील सामग्री से बना होना चाहिए।

**Options :**

- 68634078221. 1
- 68634078222. 2
- 68634078223. 3
- 68634078224. 4

**Question Number : 57 Question Id : 68634019803 Question Type : MCQ Option Shuffling : No Is Question Mandatory : No Calculator : None Response Time : N.A Think Time : N.A Minimum Instruction Time : 0**

**Correct Marks : 4 Wrong Marks : 1**

Arrange these Architecture Style According to time line

- A. Baroque
- B. Gothic
- C. Renaissance
- D. Romanesque
- E. Modern

choose the correct answer from the option given below :

1. D,B,C,A,E
2. A,C,B,E,D
3. D,B,A,C,E
4. D,B,C,E,A

**Options :**

- 68634078225. 1
- 68634078226. 2
- 68634078227. 3
- 68634078228. 4

**Question Number : 57 Question Id : 68634019803 Question Type : MCQ Option Shuffling : No Is Question Mandatory : No Calculator : None Response Time : N.A Think Time : N.A Minimum Instruction Time : 0**

**Correct Marks : 4 Wrong Marks : 1**

समय रेखा के अनुसार वास्तु कला शैली को लगाए।

- A. बरोक
- B. गोथिक
- C. रीनेसन्स
- D. रोमनग्रीक
- E. मार्टन

नीचे दिए गए विकल्पों में से सही उत्तर का चयन कीजिए:

1. D,B,C,A,E
2. A,C,B,E,D
3. D,B,A,C,E
4. D,B,C,E,A

**Options :**

- 68634078225. 1
- 68634078226. 2
- 68634078227. 3
- 68634078228. 4

**Question Number : 58 Question Id : 68634019804 Question Type : MCQ Option Shuffling : No Is Question Mandatory : No Calculator : None Response Time : N.A Think Time : N.A Minimum Instruction Time : 0**

**Correct Marks : 4 Wrong Marks : 1**

Match List I with List II

LIST I(Ancient Architecture)		LIST II(Structure)	
A.	Greek Architecture	I.	Parthenon
B.	Roman Architecture	II.	Mastabas
C.	Egyptian Architecture	III.	Ziggurat
D.	Mesopotamian Architecture	IV.	Pantheon

Choose the correct answer from the options given below:

1. A-II, B-I, C-III, D-IV
2. A-I, B-III, C-II, D-IV
3. A-I, B-IV, C-II, D-III
4. A-II, B-IV, C-I, D-III

**Options :**

- 68634078229. 1
- 68634078230. 2
- 68634078231. 3
- 68634078232. 4

Question Number : 58 Question Id : 68634019804 Question Type : MCQ Option Shuffling : No Is Question Mandatory : No Calculator : None Response Time : N.A Think Time : N.A Minimum Instruction Time : 0

Correct Marks : 4 Wrong Marks : 1

सूची I का सूची II से मिलान कीजिए

सूची I प्राचीन वास्तु कला		सूची II ढांचा	
A.	ग्रीक वास्तुकला	I.	पार्थेनॉन
B.	रोमन वास्तुकला	II.	मस्तबा
C.	इजिप्ट	III.	जिम्गुरत
D.	मेसोपोटामियन वास्तुकला	IV.	पेनथिओन

निम्नलिखित विकल्पों में से सही उत्तर का चयन कीजिए :

1. A-II, B-I, C-III, D-IV
2. A-I, B-III, C-II, D-IV
3. A-I, B-IV, C-II, D-III
4. A-II, B-IV, C-I, D-III

Options :

68634078229. 1  
68634078230. 2  
68634078231. 3  
68634078232. 4

Question Number : 59 Question Id : 68634019805 Question Type : MCQ Option Shuffling : No Is Question Mandatory : No Calculator : None Response Time : N.A Think Time : N.A Minimum Instruction Time : 0

Correct Marks : 4 Wrong Marks : 1

Match List I with List II

LIST I(TRAPS)		LIST II(Areas)	
A.	P Trap	I.	Inspection chamber
B.	Gully Trap	II.	Bathroom
C.	Bottle trap	III.	Indian W.C
D.	Nahani trap	IV.	Wash basin

Choose the correct answer from the options given below:

1. A-III, B-IV, C-I , D-II
2. A-III, B-I, C-IV , D-II
3. A-I, B-IV, C-II , D-III
4. A-II, B-I, C-IV , D-III

Options :

68634078233. 1  
68634078234. 2

68634078235. 3

68634078236. 4

**Question Number : 59 Question Id : 68634019805 Question Type : MCQ Option Shuffling : No Is Question Mandatory : No Calculator : None Response Time : N.A Think Time : N.A Minimum Instruction Time : 0 Correct Marks : 4 Wrong Marks : 1**

सूची I का सूची II से मिलान कीजिए

सूची I		सूची II	
टैप		क्षेत्र	
A.	पी - टैप	I.	निरक्षण कक्ष (Inspection chamber)
B.	गली - टैप	II.	स्नान घर
C.	बोटल - टैप	III.	भारतीय शौचालय
D.	नहानी - टैप	IV.	वॉस बेसिन

निम्नलिखित विकल्पों में से सही उत्तर का चयन कीजिए :

1. A-III, B-IV, C-I , D-II
2. A-III, B-I, C-IV , D-II
3. A-I, B-IV, C-II , D-III
4. A-II, B-I, C-IV , D-III

**Options :**

68634078233. 1

68634078234. 2

68634078235. 3

68634078236. 4

**Question Number : 60 Question Id : 68634019806 Question Type : MCQ Option Shuffling : No Is Question Mandatory : No Calculator : None Response Time : N.A Think Time : N.A Minimum Instruction Time : 0 Correct Marks : 4 Wrong Marks : 1**

The essential difference between CPM and PERT is:

1. Critical Path Vs Critical activity
2. Arrow notation Vs Notation precedence
3. Deterministic approach Vs Probalistic approach
4. Project Monitoring Vs Network Analysis

**Options :**

68634078237. 1

68634078238. 2

68634078239. 3

68634078240. 4

**Question Number : 60 Question Id : 68634019806 Question Type : MCQ Option Shuffling : No Is Question Mandatory : No Calculator : None Response Time : N.A Think Time : N.A Minimum Instruction Time : 0**

**Correct Marks : 4 Wrong Marks : 1**

पीसीएम और पी. ई. आर. टी (PERT) में आवश्यक अन्तर क्या है।

1. क्रिटिकल पाठ के विरुद्ध क्रिटिकल गतिविधि
2. तीर सांकेतिक चिह्न के विरुद्ध पूरक सांकेतिक चिह्न
3. नियतात्मक दृष्टिकोण के विरुद्ध सामान्य दृष्टिकोण
4. प्रोजेक्ट की देख रेख के विरुद्ध नेटवर्क एनालिसिस

**Options :**

68634078237. 1

68634078238. 2

68634078239. 3

68634078240. 4

**Question Number : 61 Question Id : 68634019807 Question Type : MCQ Option Shuffling : No Is Question Mandatory : No Calculator : None Response Time : N.A Think Time : N.A Minimum Instruction Time : 0**

**Correct Marks : 4 Wrong Marks : 1**

A small commercial plot measuring 20 meter × 30 meter is subjected to maximum ground coverage of 60% and FAR 300 with Fullest land utilisation and uniform floor areas ,how many floors can be built on the plot ?

1. Six
2. Three
3. Five
4. Ten

**Options :**

68634078241. 1

68634078242. 2

68634078243. 3

68634078244. 4

**Question Number : 61 Question Id : 68634019807 Question Type : MCQ Option Shuffling : No Is Question Mandatory : No Calculator : None Response Time : N.A Think Time : N.A Minimum Instruction Time : 0**

**Correct Marks : 4 Wrong Marks : 1**



एक छोटे वाणिज्यिक प्लॉट को मापने पर 20मीटर × 30 मीटर पाया गया, जिसका FAR 300 है और 60 प्रतिशत कुल FAR का भूतल पर इस्तेमाल करके समांतर सतह क्षेत्र को उपभोग करके प्लॉट में कुल कितनी मंजिल बनाई जा सकती है?

1. 6
2. 3
3. 5
4. 10

**Options :**

68634078241. 1  
68634078242. 2  
68634078243. 3  
68634078244. 4

**Question Number : 62 Question Id : 68634019808 Question Type : MCQ Option Shuffling : No Is Question Mandatory : No Calculator : None Response Time : N.A Think Time : N.A Minimum Instruction Time : 0 Correct Marks : 4 Wrong Marks : 1**

Match List I with List II

LIST I		LIST II	
A.	Hall of Nations, New Delhi	I.	Spherical Structure
B.	Salvacao church, Mumbai	II.	Shell Roof Structure
C.	State trading Corporation Building, New Delhi	III.	Octahedral Lattice Structure
D.	Matri Mandir, Auroville	IV.	Vierendeel Structure

Choose the correct answer from the options given below:

1. A-III, B-II, C-IV, D-I
2. A-II, B-III, C-IV, D-I
3. A-III, B-I, C-IV, D-II
4. A-III, B-IV, C-II, D-I

**Options :**

68634078245. 1  
68634078246. 2  
68634078247. 3  
68634078248. 4

**Question Number : 62 Question Id : 68634019808 Question Type : MCQ Option Shuffling : No Is Question Mandatory : No Calculator : None Response Time : N.A Think Time : N.A Minimum Instruction Time : 0 Correct Marks : 4 Wrong Marks : 1**

सूची I का सूची II से मिलान कीजिए

सूची I		सूची II	
A.	हाल ऑफ नेशन, नई दिल्ली	I.	गोलाकार ढांचा
B.	सैलवाको चर्च, मुंबई	II.	शैल रूप ढांचा
C.	स्टेट ट्रेडिंग कापोरेशन बिल्डिंग, नई दिल्ली	III.	ओक्टा हैडल लेटिस ढांचा
D.	माता मंदिर, ओरोविल	IV.	विरेनडील गिरडरस

निम्नलिखित विकल्पों में से सही उत्तर का चयन कीजिए :

1. A-III, B-II, C-IV, D-I
2. A-II, B-III, C-IV, D-I
3. A-III, B-I, C-IV, D-II
4. A-III, B-IV, C-II, D-I

**Options :**

68634078245. 1  
68634078246. 2  
68634078247. 3  
68634078248. 4

**Question Number : 63 Question Id : 68634019809 Question Type : MCQ Option Shuffling : No Is Question Mandatory : No Calculator : None Response Time : N.A Think Time : N.A Minimum Instruction Time : 0**

**Correct Marks : 4 Wrong Marks : 1**

Match List I with List II

LIST I		LIST II	
A.	Brinda Somaya	I.	Museum of Tribel Heritage Bhopal
B.	Shrila Sai Prakash	II.	St. Thomas cathedral ,Mumbai
C.	Revathy Kamath	III.	Bait-ir-Rauf Mosque , Dhaka
D.	Marina Tabassem	IV.	Cholamandal Artist's Village Chennai

Choose the correct answer from the options given below:

1. A-II, B-I, C-IV, D-III
2. A-II, B-IV, C-I, D-III
3. A-II, B-I, C-III, D-IV
4. A-III, B-I, C-II, D-IV

**Options :**

68634078249. 1  
68634078250. 2  
68634078251. 3  
68634078252. 4

Question Number : 63 Question Id : 68634019809 Question Type : MCQ Option Shuffling : No Is Question Mandatory : No Calculator : None Response Time : N.A Think Time : N.A Minimum Instruction Time : 0

Correct Marks : 4 Wrong Marks : 1

सूची I का सूची II से मिलान कीजिए

सूची I वास्तुकार		सूची II इमारत	
A.	बिन्दा सौम्या	I.	आदिवासी विरासत संग्रहालय
B.	शीला साई प्रकाश	II.	सेंट थॉमस कैथड्रल, मुंबई
C.	रेवाती कामथ	III.	बैट-इर-राफ मस्जिद, ढाका
D.	मरीना तैबसैम	IV.	चौलामंडल कलाकार गाँव चेन्नई

निम्नलिखित विकल्पों में से सही उत्तर का चयन कीजिए :

1. A-II, B-I, C-IV, D-III
2. A-II, B-IV, C-I, D-III
3. A-II, B-I, C-III, D-IV
4. A-III, B-I, C-II, D-IV

Options :

68634078249. 1  
68634078250. 2  
68634078251. 3  
68634078252. 4

Question Number : 64 Question Id : 68634019810 Question Type : MCQ Option Shuffling : No Is Question Mandatory : No Calculator : None Response Time : N.A Think Time : N.A Minimum Instruction Time : 0

Correct Marks : 4 Wrong Marks : 1

Arrange these Temple according to their Period

- A. Lingraj Temple, Bhubaneshwar
- B. Sun Temple , Modhera , Gujrat
- C. Shore Temple ,Mahabalipuram
- D. Taj mahal , Agra
- E. Ajanta /Ellora Caves

choose the correct answer from the option given below:

1. E,C,B,A,D
2. E,C,A,B,D
3. C,A,E,D,B
4. C,E,A,B,D

Options :

68634078253. 1  
68634078254. 2

68634078255. 3

68634078256. 4

**Question Number : 64 Question Id : 68634019810 Question Type : MCQ Option Shuffling : No Is Question Mandatory : No Calculator : None Response Time : N.A Think Time : N.A Minimum Instruction Time : 0**

**Correct Marks : 4 Wrong Marks : 1**

नीचे दिए गए मंदिरों को समय चक्र के अनुसार सही क्रम में लगाएं :

- A. लिंगराज मंदिर, भुवनेश्वर
- B. सुर्य मंदिर, मोढेरा, गुजरात
- C. सौर मंदिर, महाबलीपुरम
- D. ताज महल, आगरा
- E. अजंता / एलोरा गुफाएं

नीचे दिए गए विकल्पों में से सही उत्तर का चयन कीजिए: ।

- 1. E,C,B,A,D
- 2. E,C,A,B,D
- 3. C,A,E,D,B
- 4. C,E,A,B,D

**Options :**

68634078253. 1

68634078254. 2

68634078255. 3

68634078256. 4

**Question Number : 65 Question Id : 68634019811 Question Type : MCQ Option Shuffling : No Is Question Mandatory : No Calculator : None Response Time : N.A Think Time : N.A Minimum Instruction Time : 0**

**Correct Marks : 4 Wrong Marks : 1**

Arrange these Architects according to the year they won Pritzker Architecture Prize in descending order.

- A. Arora Isozaki
- B. B.V Doshi
- C. Jean Nouvel
- D. Zaha Hadid
- E. Frei otto

choose the correct answer from the option given below:

- 1. A,D,C,B,E
- 2. B,A,E,C,D
- 3. A,B,E,C,D
- 4. A,B,C,D,E

**Options :**

68634078257. 1  
68634078258. 2  
68634078259. 3  
68634078260. 4

**Question Number : 65 Question Id : 68634019811 Question Type : MCQ Option Shuffling : No Is Question Mandatory : No Calculator : None Response Time : N.A Think Time : N.A Minimum Instruction Time : 0 Correct Marks : 4 Wrong Marks : 1**

वास्तुकार ने जिस वर्ष में वास्तुकला का प्रिज्जकर पुरस्कार जीता है उनके अनुसार घटते हेर क्रम में लगाइए:

- A. बी. वी. दौसी
- B. जीन नोवेल
- C. जाहा हदीद
- D. फ्रीयो ओटो

नीचे दिए गए विकल्पों में से सही उत्तर का चयन कीजिए: ।

- 1. A,D,C,B,E
- 2. B,A,E,C,D
- 3. A,B,E,C,D
- 4. A,B,C,D,E

**Options :**

68634078257. 1  
68634078258. 2  
68634078259. 3  
68634078260. 4

**Question Number : 66 Question Id : 68634019812 Question Type : MCQ Option Shuffling : No Is Question Mandatory : No Calculator : None Response Time : N.A Think Time : N.A Minimum Instruction Time : 0 Correct Marks : 4 Wrong Marks : 1**

Match List I with List II

LIST I		LIST II	
A.	Simply supported Bridge	I.	Howrah Bridge, West Bengal
B.	Arch Bridge	II.	Rajendra Setu , Bihar
C.	Suspension Bridge	III.	Sydney Harbor Bridge
D.	Cantilever Bridge	IV.	Brooklyn Bridge, New york

Choose the correct answer from the options given below:

- 1. A-III, B-II, C-I, D-IV
- 2. A-II, B-IV, C-III, D-I
- 3. A-III, B-IV, C-II, D-I
- 4. A-II, B-III, C-IV, D-I

**Options :**

68634078261. 1  
68634078262. 2  
68634078263. 3  
68634078264. 4

**Question Number : 66 Question Id : 68634019812 Question Type : MCQ Option Shuffling : No Is Question Mandatory : No Calculator : None Response Time : N.A Think Time : N.A Minimum Instruction Time : 0**

**Correct Marks : 4 Wrong Marks : 1**

सूची I का सूची II से मिलान कीजिए

सूची I		सूची II	
A.	सिम्पल सपोर्टेड ब्रिज	I.	हावड़ा ब्रिज, पश्चिम बंगाल
B.	आर्क ब्रिज	II.	राजेन्द्र सेतु, बिहार
C.	सस्पेंशन ब्रिज	III.	सिडनी हार्बर ब्रिज
D.	केन्टीलीवर ब्रिज	IV.	ब्रुकलिन ब्रिज न्यूयार्क

निम्नलिखित विकल्पों में से सही उत्तर का चयन कीजिए :

1. A-III, B-II, C-I, D-IV
2. A-II, B-IV, C-III, D-I
3. A-III, B-IV, C-II, D-I
4. A-II, B-III, C-IV, D-I

**Options :**

68634078261. 1  
68634078262. 2  
68634078263. 3  
68634078264. 4

**Question Number : 67 Question Id : 68634019813 Question Type : MCQ Option Shuffling : No Is Question Mandatory : No Calculator : None Response Time : N.A Think Time : N.A Minimum Instruction Time : 0**

**Correct Marks : 4 Wrong Marks : 1**

Given below are two statements of some famous Architects

**Statement I** : 'Less is more'-statement is given by Mies Van der Rohe.

**Statement II** : 'Less is bore'-statement is given by Tadao Ando

In the light of the above statements, choose the most appropriate answer from the options given below :

1. Both Statement I and Statement II are correct
2. Both Statement I and Statement II are incorrect
3. Statement I is correct but Statement II is incorrect
4. Statement I is incorrect but Statement II is correct

**Options :**

- 68634078265. 1
- 68634078266. 2
- 68634078267. 3
- 68634078268. 4

**Question Number : 67 Question Id : 68634019813 Question Type : MCQ Option Shuffling : No Is Question Mandatory : No Calculator : None Response Time : N.A Think Time : N.A Minimum Instruction Time : 0**

**Correct Marks : 4 Wrong Marks : 1**

नीचे दो कथन दिए गए हैं:

**कथन I-** 'लैस इज मोर' 'मिज वेन डेर रोहे' द्वारा दिया गया।

**कथन II-** 'लैस इज बोर' कथन 'तादाओ एंडो' द्वारा दिया गया।

उपरोक्त कथन के आलोक में, नीचे दिए गए विकल्पों में से सबसे उपयुक्त उत्तर का चयन कीजिए:

1. कथन I और कथन II दोनों सत्य हैं
2. कथन I और कथन II दोनों असत्य हैं
3. कथन I सत्य है, लेकिन कथन II असत्य है
4. कथन I असत्य है, लेकिन कथन II सत्य है

**Options :**

- 68634078265. 1
- 68634078266. 2
- 68634078267. 3
- 68634078268. 4

**Question Number : 68 Question Id : 68634019814 Question Type : MCQ Option Shuffling : No Is Question Mandatory : No Calculator : None Response Time : N.A Think Time : N.A Minimum Instruction Time : 0**

**Correct Marks : 4 Wrong Marks : 1**

'Dumb waiter' is a type of :

1. Robot
2. Lift
3. Escalator
4. Dish washer

**Options :**

- 68634078269. 1
- 68634078270. 2
- 68634078271. 3

68634078272. 4

**Question Number : 68 Question Id : 68634019814 Question Type : MCQ Option Shuffling : No Is Question Mandatory : No Calculator : None Response Time : N.A Think Time : N.A Minimum Instruction Time : 0**

**Correct Marks : 4 Wrong Marks : 1**

डंब वेटर किसका प्रकार है

1. रोबोट
2. लिफ्ट
3. एक्सलेटर
4. डिश वाशर

**Options :**

68634078269. 1  
68634078270. 2  
68634078271. 3  
68634078272. 4

**Question Number : 69 Question Id : 68634019815 Question Type : MCQ Option Shuffling : No Is Question Mandatory : No Calculator : None Response Time : N.A Think Time : N.A Minimum Instruction Time : 0**

**Correct Marks : 4 Wrong Marks : 1**

Desirable spacing of trees along highway is:

1. 3m to 7m
2. 9m to 15m
3. 20m to 25m
4. 20m to 30m

**Options :**

68634078273. 1  
68634078274. 2  
68634078275. 3  
68634078276. 4

**Question Number : 69 Question Id : 68634019815 Question Type : MCQ Option Shuffling : No Is Question Mandatory : No Calculator : None Response Time : N.A Think Time : N.A Minimum Instruction Time : 0**

**Correct Marks : 4 Wrong Marks : 1**



राज मार्ग के साथ लगने वाले वृक्षों की उचित दूरी क्या है -

1. 3 मी. से 7मी.
2. 9मी. से 15 मी.
3. 20 मी. से 25 मी.
4. 20 मी. से 30 मी.

**Options :**

68634078273. 1  
68634078274. 2  
68634078275. 3  
68634078276. 4

**Question Number : 70 Question Id : 68634019816 Question Type : MCQ Option Shuffling : No Is Question Mandatory : No Calculator : None Response Time : N.A Think Time : N.A Minimum Instruction Time : 0 Correct Marks : 4 Wrong Marks : 1**

In Urban planning Cohort refers to:

1. Age and sex classification of population
2. Contour levels in slop analysis
3. Land use classification of population
4. Soil Layer classification

**Options :**

68634078277. 1  
68634078278. 2  
68634078279. 3  
68634078280. 4

**Question Number : 70 Question Id : 68634019816 Question Type : MCQ Option Shuffling : No Is Question Mandatory : No Calculator : None Response Time : N.A Think Time : N.A Minimum Instruction Time : 0 Correct Marks : 4 Wrong Marks : 1**

बाहरी शहरी परियोजना में कोहोर्ट (जल्था) उद्धृत करता है -

1. आयु और लिंग के आधार पर जनसंख्या का वर्गीकरण
2. कंटूर स्तर पर ढलान की जांच करना
3. जनसंख्या के आधार पर उपयोग करने के लिए जमीन का वर्गीकरण
4. मिट्टी की सतहों का वर्गीकरण

**Options :**

68634078277. 1

68634078278. 2

68634078279. 3

68634078280. 4

**Question Number : 71 Question Id : 68634019817 Question Type : MCQ Option Shuffling : No Is Question Mandatory : No Calculator : None Response Time : N.A Think Time : N.A Minimum Instruction Time : 0**

**Correct Marks : 4 Wrong Marks : 1**

Match List I with List II

LIST I		LIST II	
A.	Index plan	I.	Details of plumbing service, water supply and sewage
B.	Key plan	II.	The relative position of all the different unit
C.	Service plan	III.	The general layout of a new town showing the position of roads, market, hospitals etc
D.	Layout plan	IV.	Details of the particular building

Choose the correct answer from the options given below:

1. A-IV, B-III, C-II, D-I

2. A-III, B-IV, C-I, D-I

3. A-III, B-I, C-II, D-IV

4. A-IV, B-I, C-II, D-III

**Options :**

68634078281. 1

68634078282. 2

68634078283. 3

68634078284. 4

**Question Number : 71 Question Id : 68634019817 Question Type : MCQ Option Shuffling : No Is Question Mandatory : No Calculator : None Response Time : N.A Think Time : N.A Minimum Instruction Time : 0**

**Correct Marks : 4 Wrong Marks : 1**

सूची I का सूची II से मिलान कीजिए

सूची I		सूची II	
A.	इंडेक्स प्लान	I.	नल साजी, जलापूर्ति और मल का विवरण
B.	की प्लान	II.	सभी विभिन्न इकाइयों की सापेक्ष स्थिति
C.	सर्विस प्लान	III.	सड़कों, बाजारों और अस्पतालों आदि की स्थिति दर्शाते हुए नए नगर की सामान्य रूप रेखा
D.	लोआउट प्लान	IV.	विशिष्ट इमारत का विवरण

निम्नलिखित विकल्पों में से सही उत्तर का चयन कीजिए :

1. A-IV, B-III, C-II, D-I

2. A-III, B-IV, C-I, D-I

3. A-III, B-I, C-II, D-IV

4. A-IV, B-I, C-II, D-III

**Options :**

68634078281. 1

68634078282. 2

68634078283. 3

68634078284. 4

**Question Number : 72 Question Id : 68634019818 Question Type : MCQ Option Shuffling : No Is Question Mandatory : No Calculator : None Response Time : N.A Think Time : N.A Minimum Instruction Time : 0**

**Correct Marks : 4 Wrong Marks : 1**

Given below are two statements: one is labelled as Assertion A and the other is labelled as Reason R

**Assertion A:** The Architecture was in its prime about 2000 years ago in Ancient India.

**Reason R:** At Bhitargaon in Uttar Pradesh a tower was built on the top of garbhagriha, know as Shikharas which required careful planning.

In the light of the above statements, choose the correct answer from the options given below

1. Both A and R are true and R is the correct explanation of A

2. Both A and R are true but R is NOT the correct explanation of A

3. A is true but R is false

4. A is false but R is true

**Options :**

68634078285. 1

68634078286. 2

68634078287. 3

68634078288. 4

**Question Number : 72 Question Id : 68634019818 Question Type : MCQ Option Shuffling : No Is Question Mandatory : No Calculator : None Response Time : N.A Think Time : N.A Minimum Instruction Time : 0**

**Correct Marks : 4 Wrong Marks : 1**

नीचे दो कथन दिए गए हैं: एक अभिकथन (Assertion A) के रूप में लिखित है तो दूसरा उसके कारण (Reason R) के रूप में:

**अभिकथन A:** 2000 वर्ष पूर्व प्राचीन भारत में वास्तुकला अपने उच्चतम स्तर पर थी।

**कारण R:** उत्तर प्रदेश के बिटार गाँव में गर्भ गृह के ऊपर एक मीनार बनाई गई जिसे शिखर के नाम से जाना जाता है जिसके लिए बहुत सावधानी पूर्वक योजना बनाई गई।

उपरोक्त कथन के आलोक में, नीचे दिए गए विकल्पों में से सबसे उपयुक्त उत्तर का चयन कीजिए:

1. A और R दोनों सही हैं और R, A की सही व्याख्या है
2. A और R दोनों सही हैं और R, A की सही व्याख्या नहीं है
3. A सही है लेकिन R सही नहीं है
4. A सही नहीं है लेकिन R सही है

**Options :**

68634078285. 1
68634078286. 2
68634078287. 3
68634078288. 4

**Question Number : 73 Question Id : 68634019819 Question Type : MCQ Option Shuffling : No Is Question Mandatory : No Calculator : None Response Time : N.A Think Time : N.A Minimum Instruction Time : 0**

**Correct Marks : 4 Wrong Marks : 1**

Arrange the following in ascending order of width :

- A. Collector Street
- B. Arterial Road
- C. Local Street
- D. Sub Arterial Road

choose the correct answer from the option given below :

1. A,B,D,C
2. C,B,D,A
3. B,D,C,A
4. B,D,A,B

**Options :**

68634078289. 1
68634078290. 2

68634078291. 3

68634078292. 4

**Question Number : 73 Question Id : 68634019819 Question Type : MCQ Option Shuffling : No Is Question Mandatory : No Calculator : None Response Time : N.A Think Time : N.A Minimum Instruction Time : 0**

**Correct Marks : 4 Wrong Marks : 1**

चौड़ाई के अनुसार बढ़ते क्रम में रखे :

- A. कलेक्टर सड़क
- B. आर्टीरियल सड़क (सामग्री सड़क)
- C. लोकल स्ट्रीट
- D. सब आर्टीरियल सड़क

नीचे दिए गए विकल्पों में से सही उत्तर का चयन कीजिए:

- 1. A,B,D,C
- 2. C,B,D,A
- 3. B,D,C,A
- 4. B,D,A,B

**Options :**

68634078289. 1

68634078290. 2

68634078291. 3

68634078292. 4

**Question Number : 74 Question Id : 68634019820 Question Type : MCQ Option Shuffling : No Is Question Mandatory : No Calculator : None Response Time : N.A Think Time : N.A Minimum Instruction Time : 0**

**Correct Marks : 4 Wrong Marks : 1**

Broad acre city was proposed by

- 1. Ebenezer Howard
- 2. C.A Doxiadis
- 3. Frank Lloyd Wright
- 4. Le Corbusier

**Options :**

68634078293. 1

68634078294. 2

68634078295. 3

68634078296. 4

**Question Number : 74 Question Id : 68634019820 Question Type : MCQ Option Shuffling : No Is Question Mandatory : No Calculator : None Response Time : N.A Think Time : N.A Minimum Instruction Time : 0**

**Correct Marks : 4 Wrong Marks : 1**

ब्राड एकड़ शहर किसने प्रस्तावित किया था ।

1. इबेन्जार हावर्ड
2. सी. ए. डाक्सीएडिस
3. फ्रेंक लॉयड राईट
4. ली कार्बूजियर

**Options :**

68634078293. 1  
68634078294. 2  
68634078295. 3  
68634078296. 4

**Question Number : 75 Question Id : 68634019821 Question Type : MCQ Option Shuffling : No Is Question Mandatory : No Calculator : None Response Time : N.A Think Time : N.A Minimum Instruction Time : 0**

**Correct Marks : 4 Wrong Marks : 1**

Surkhi is obtained by grinding

1. Well burnt clay bricks
2. Slag from industry
3. Rocks
4. Rice husk

**Options :**

68634078297. 1  
68634078298. 2  
68634078299. 3  
68634078300. 4

**Question Number : 75 Question Id : 68634019821 Question Type : MCQ Option Shuffling : No Is Question Mandatory : No Calculator : None Response Time : N.A Think Time : N.A Minimum Instruction Time : 0**

**Correct Marks : 4 Wrong Marks : 1**

किसकी पिसाई से सुरखी प्राप्त होती है।

1. अच्छी तरह से पक्की हुई मिट्टी की ईंट
2. उद्योगों से निकला हुआ स्लेग
3. चट्टान
4. चावल का छिलका

**Options :**

68634078297. 1

68634078298. 2

68634078299. 3

68634078300. 4

**Question Number : 76 Question Id : 68634019822 Question Type : MCQ Option Shuffling : No Is Question Mandatory : No Calculator : None Response Time : N.A Think Time : N.A Minimum Instruction Time : 0**

**Correct Marks : 4 Wrong Marks : 1**

The age of a tree is determined by :

1. Counting the number of rings in stem cross section
2. Counting no of Leaves on the main branch.
3. Measuring the height of tree from root ball
4. Measuring the canopy circumference of tree.

**Options :**

68634078301. 1

68634078302. 2

68634078303. 3

68634078304. 4

**Question Number : 76 Question Id : 68634019822 Question Type : MCQ Option Shuffling : No Is Question Mandatory : No Calculator : None Response Time : N.A Think Time : N.A Minimum Instruction Time : 0**

**Correct Marks : 4 Wrong Marks : 1**

एक वृक्ष की आयु का आकंलन कैसे करते हैं -

1. वृक्ष के तने के अनुप्रस्थ काट में मौजूद छल्लों को गिन कर।
2. मुख्य टहनी पर मौजूद कुल पत्तियों की गणना करके।
3. वृक्ष की जड़ों के समोह से वृक्ष की उंचाई मापने से।
4. पेड़ की छत्र की परिधि मापकर

**Options :**

68634078301. 1

68634078302. 2

68634078303. 3

68634078304. 4

**Question Number : 77 Question Id : 68634019823 Question Type : MCQ Option Shuffling : No Is Question Mandatory : No Calculator : None Response Time : N.A Think Time : N.A Minimum Instruction Time : 0**

**Correct Marks : 4 Wrong Marks : 1**

'Kashi Vishwanath Corridor' Development project was completed by which architect ?

1. B.V Doshi
2. Bimal Patel
3. Ashok B.Lall
4. Dikshu Kukreja

**Options :**

68634078305. 1  
68634078306. 2  
68634078307. 3  
68634078308. 4

**Question Number : 77 Question Id : 68634019823 Question Type : MCQ Option Shuffling : No Is Question Mandatory : No Calculator : None Response Time : N.A Think Time : N.A Minimum Instruction Time : 0**

**Correct Marks : 4 Wrong Marks : 1**

'काशी विश्वनाथ कॉरिडोर' विकास प्रोजेक्ट किस वास्तुकार ने पूरा किया।

1. बी.वी. दोशी
2. अशोक बी. लाल
3. बिमल पटेल
4. दिक्षु कुकरेजा

**Options :**

68634078305. 1  
68634078306. 2  
68634078307. 3  
68634078308. 4

**Question Number : 78 Question Id : 68634019824 Question Type : MCQ Option Shuffling : No Is Question Mandatory : No Calculator : None Response Time : N.A Think Time : N.A Minimum Instruction Time : 0**

**Correct Marks : 4 Wrong Marks : 1**



Given below are two statements: one is labelled as **Assertion A** and the other is labelled as **Reason R**.

**Assertion A:** Agra fort was built by Akbar and He shifted there from Fatehpur Sikri.

**Reason R:** Though Akbar wanted to rule the nation from Fatehpur Sikri, but he could not stay there for long due to lack of water in that area and shifted to Agra fort .

In the light of the above statements, choose the correct answer from the options given below

1. Both A and R are true and R is the correct explanation of A
2. Both A and R are true but R is NOT the correct explanation of A
3. A is true but R is false
4. A is false but R is true

**Options :**

68634078309. 1  
68634078310. 2  
68634078311. 3  
68634078312. 4

**Question Number : 78 Question Id : 68634019824 Question Type : MCQ Option Shuffling : No Is Question Mandatory : No Calculator : None Response Time : N.A Think Time : N.A Minimum Instruction Time : 0**

**Correct Marks : 4 Wrong Marks : 1**

नीचे दो कथन दिए गए हैं: एक **अभिकथन (Assertion A)** के रूप में लिखित है तो दूसरा उसके **कारण (Reason R)** के रूप में;

**अभिकथन A :** आगरा का किला अकबर ने बनवाया था जिसे फतेहपुर सिकरी से स्थानांतरित किया गया था।

**कारण R :** अकबर फतेहपुर सिकरी से पूरेदेश पर शासन करना चाहता था पर वह ज्यादा समय रुक नहीं सका क्योंकि वहाँ पर पानी की कमी थी इस लिए आगरा के किले में स्थानांतरित होना पड़ा।

उपरोक्त कथन के आलोक में, नीचे दिए गए विकल्पों में से सबसे उपयुक्त उत्तर का चयन कीजिए:

1. A और R दोनों सत्य हैं और R, A की सही व्याख्या है
2. A और R दोनों सत्य हैं और R, A की सही व्याख्या नहीं है
3. A सत्य है लेकिन R असत्य है
4. A असत्य है लेकिन R सत्य है

**Options :**

68634078309. 1  
68634078310. 2  
68634078311. 3  
68634078312. 4

**Question Number : 79 Question Id : 68634019825 Question Type : MCQ Option Shuffling : No Is Question Mandatory : No Calculator : None Response Time : N.A Think Time : N.A Minimum Instruction Time : 0**

**Correct Marks : 4 Wrong Marks : 1**

Identify the mechanisms that is associated with the heat loss of a material

- A. Conduction
- B. Reflection
- C. Convection
- D. Radiation
- E. Refraction

choose the correct answer from the option given below:

1. A,B and C
2. A,C and D
3. A,B and E
4. B,D and E

**Options :**

- 68634078313. 1
- 68634078314. 2
- 68634078315. 3
- 68634078316. 4

**Question Number : 79 Question Id : 68634019825 Question Type : MCQ Option Shuffling : No Is Question Mandatory : No Calculator : None Response Time : N.A Think Time : N.A Minimum Instruction Time : 0**

**Correct Marks : 4 Wrong Marks : 1**

उस क्रिया विधि की पहचान करे जो किसी पदार्थ की ऊष्मा हानि से संबंधित है

- A. चालन
- B. परावर्तन
- C. (कनवेक्शन) संवहन
- D. विकिरण
- E. अपवर्तन

नीचे दिए गए विकल्पों में से सबसे उपयुक्त उत्तर का चयन कीजिए:

1. A, B और C
2. A, C और D
3. A, B और E
4. B, D और E

**Options :**

- 68634078313. 1
- 68634078314. 2

68634078315. 3

68634078316. 4

**Question Number : 80 Question Id : 68634019826 Question Type : MCQ Option Shuffling : No Is Question Mandatory : No Calculator : None Response Time : N.A Think Time : N.A Minimum Instruction Time : 0 Correct Marks : 4 Wrong Marks : 1**

Which of the following is not a part of disaster resistant building ?

1. Shear wall
2. Glass window
3. Cross bracing
4. Bonds at different level from plinth to roof

**Options :**

68634078317. 1

68634078318. 2

68634078319. 3

68634078320. 4

**Question Number : 80 Question Id : 68634019826 Question Type : MCQ Option Shuffling : No Is Question Mandatory : No Calculator : None Response Time : N.A Think Time : N.A Minimum Instruction Time : 0 Correct Marks : 4 Wrong Marks : 1**

निम्नलिखित में से भारत का कौन सा भाग आपदा अवरोधक नहीं है।

1. अपरूपण दीवार
2. कांच की खिड़की
3. क्रॉस ब्रेसिंग
4. प्लिन्थ से छत तक अलग-अलग स्तर पर मुड़ा हुआ

**Options :**

68634078317. 1

68634078318. 2

68634078319. 3

68634078320. 4

**Question Number : 81 Question Id : 68634019827 Question Type : MCQ Option Shuffling : No Is Question Mandatory : No Calculator : None Response Time : N.A Think Time : N.A Minimum Instruction Time : 0 Correct Marks : 4 Wrong Marks : 1**

Match List I with List II

LIST I (Planning theories)		LIST II (Proponents)	
A.	Sector Theory	I.	Ebenezer Howard
B.	Neighbourhood Theory	II.	Harris and Ullman
C.	Multiple Nuclei Theory	III.	Homer Hoyt
D.	Garden city Theory	IV.	Clarence Perry

Choose the correct answer from the options given below:

1. A-III, B-II, C-IV, D-I
2. A-IV, B-I, C-III, D-II
3. A-III, B-IV, C-II, D-I
4. A-IV, B-III, C-I, D-II

**Options :**

68634078321. 1  
68634078322. 2  
68634078323. 3  
68634078324. 4

**Question Number : 81 Question Id : 68634019827 Question Type : MCQ Option Shuffling : No Is Question Mandatory : No Calculator : None Response Time : N.A Think Time : N.A Minimum Instruction Time : 0**

**Correct Marks : 4 Wrong Marks : 1**

सूची I का सूची II से मिलान कीजिए

सूची I (योजना थ्योरी)		सूची II	
A.	सेक्टर थ्योरी	I.	इबेन्जर हार्वड
B.	नेबरहुड थ्योरी	II.	हैरिस और उलमन
C.	मल्टीपल न्यूकेल थ्योरी	III.	होमर होमर
D.	गार्डन सिटी थ्योरी	IV.	क्लीयरंस पैरी

निम्नलिखित विकल्पों में से सही उत्तर का चयन कीजिए :

1. A-III, B-II, C-IV, D-I
2. A-IV, B-I, C-III, D-II
3. A-III, B-IV, C-II, D-I
4. A-IV, B-III, C-I, D-II

**Options :**

68634078321. 1  
68634078322. 2  
68634078323. 3  
68634078324. 4

**Question Number : 82 Question Id : 68634019828 Question Type : MCQ Option Shuffling : No Is Question Mandatory : No Calculator : None Response Time : N.A Think Time : N.A Minimum Instruction Time : 0 Correct Marks : 4 Wrong Marks : 1**

ECBC was launched in India on may 27 ,2007. It is applicable for

- A. Commercial Building having less than 500kw load
- B. Commercial Building having load of 500kw or more
- C. All building with conditioned floor areas 500m<sup>2</sup> to 1000m<sup>2</sup>
- D. All building with conditioned floor areas 500m<sup>2</sup> to 1000m<sup>2</sup>

choose the most appropriate answer from the option given below:

- 1. A and C only
- 2. A,C and D only
- 3. B and D only
- 4. B and C only

**Options :**

- 68634078325. 1
- 68634078326. 2
- 68634078327. 3
- 68634078328. 4

**Question Number : 82 Question Id : 68634019828 Question Type : MCQ Option Shuffling : No Is Question Mandatory : No Calculator : None Response Time : N.A Think Time : N.A Minimum Instruction Time : 0 Correct Marks : 4 Wrong Marks : 1**

27 मई, 2007 को भारत में ECBC शुरू हुआ यह किस पर लागू होता है।

- A. वाणिज्यिक इमारत का लोड 500 kw से कम होगा।
- B. वाणिज्यिक इमारत का लोड 500kw या इससे ज्यादा होगा।
- C. सभी इमारतों में फर्श का क्षेत्र 500m<sup>2</sup> से 1000m<sup>2</sup> होगा।
- D. सभी इमारतों में सगर्त फर्श का क्षेत्र 500m<sup>2</sup> से 1000m<sup>2</sup> इससे ज्यादा होगा।

नीचे दिए गए विकल्पों में से सबसे उपयुक्त उत्तर का चयन कीजिए-

- 1. केवल A और C
- 2. केवल A, C और D
- 3. केवल B और D
- 4. केवल B और C

**Options :**

- 68634078325. 1
- 68634078326. 2
- 68634078327. 3

68634078328. 4

**Question Number : 83 Question Id : 68634019829 Question Type : MCQ Option Shuffling : No Is Question Mandatory : No Calculator : None Response Time : N.A Think Time : N.A Minimum Instruction Time : 0 Correct Marks : 4 Wrong Marks : 1**

The most appropriate tree for designing a smell sensory pathway is:

1. Delorix Regia
2. Casia Fistula
3. Bougainvillea
4. Jasmin Augustifolium

**Options :**

- 68634078329. 1
- 68634078330. 2
- 68634078331. 3
- 68634078332. 4

**Question Number : 83 Question Id : 68634019829 Question Type : MCQ Option Shuffling : No Is Question Mandatory : No Calculator : None Response Time : N.A Think Time : N.A Minimum Instruction Time : 0 Correct Marks : 4 Wrong Marks : 1**

एक घ्राण संवेदी मार्ग की डिजाइन करने के लिए सबसे उपयुक्त वृक्ष कौन सा है

1. डोलोनिकस रेजिमा
2. कैसिया फिस्टूला
3. बोगनविलिया
4. चमेली ऑगस्टिकफीलियम

**Options :**

- 68634078329. 1
- 68634078330. 2
- 68634078331. 3
- 68634078332. 4

**Question Number : 84 Question Id : 68634019830 Question Type : MCQ Option Shuffling : No Is Question Mandatory : No Calculator : None Response Time : N.A Think Time : N.A Minimum Instruction Time : 0 Correct Marks : 4 Wrong Marks : 1**

The Three qualities defining our perception of Chromatic light are :

1. Hue ,Tint, Shade.
2. Brightness ,Contrast ,Tint
3. Value ,Hue ,Intensity
4. Value,Brightness ,Shade

**Options :**

- 68634078333. 1
- 68634078334. 2
- 68634078335. 3
- 68634078336. 4

**Question Number : 84 Question Id : 68634019830 Question Type : MCQ Option Shuffling : No Is Question Mandatory : No Calculator : None Response Time : N.A Think Time : N.A Minimum Instruction Time : 0**

**Correct Marks : 4 Wrong Marks : 1**

रंगीन प्रकाश के बोधगम्य को परिभाषित करने वाले तीन गुण लिखें।

1. Hue ,टिंट, शैड (Shade)
2. चमक, विषमिता, टिंट
3. वैल्यू, Hue, सघनता
4. वैल्यू, चमक, शैड (Shade)

**Options :**

- 68634078333. 1
- 68634078334. 2
- 68634078335. 3
- 68634078336. 4

**Question Number : 85 Question Id : 68634019831 Question Type : MCQ Option Shuffling : No Is Question Mandatory : No Calculator : None Response Time : N.A Think Time : N.A Minimum Instruction Time : 0**

**Correct Marks : 4 Wrong Marks : 1**

Match List I with List II

LIST I		LIST II	
A.	Wixner centre for visual Art, Ohio	I.	Peter Eisenmen
B.	Vitra fire Station, Weilam Rhein, Germany	II.	Louis Kahn
C.	AT and T Building	III.	Zaha hadid
D.	Sher-e Banglanagar ,Dhaka	IV.	Philip Johnson

Choose the correct answer from the options given below:

1. A-I, B-III, C-IV, D-II
2. A-I, B-II, C-III, D-IV
3. A-I, B-II, C-IV, D-III
4. A-I, B-III, C-II, D-IV

**Options :**

68634078337. 1  
68634078338. 2  
68634078339. 3  
68634078340. 4

**Question Number : 85 Question Id : 68634019831 Question Type : MCQ Option Shuffling : No Is Question Mandatory : No Calculator : None Response Time : N.A Think Time : N.A Minimum Instruction Time : 0**

**Correct Marks : 4 Wrong Marks : 1**

सूची I का सूची II से मिलान कीजिए

सूची I		सूची II	
A.	वायनर सेंटर फॉर विजुअल आर्ट, ओहायो	I.	पीटर ईसेनिमन
B.	विट्रा फायर स्टेशन, विलियम होम, जर्मनी	II.	लुईस कान
C.	एटी एंड टी बिल्डिंग न्यूयार्क	III.	जाहा हदीद
D.	शेर - ए बंगलानगर, ढाका	IV.	फिलिप जॉनसन

निम्नलिखित विकल्पों में से सही उत्तर का चयन कीजिए :

1. A-I, B-III, C-IV, D-II
2. A-I, B-II, C-III, D-IV
3. A-I, B-II, C-IV, D-III
4. A-I, B-III, C-II, D-IV

**Options :**

68634078337. 1  
68634078338. 2  
68634078339. 3  
68634078340. 4



Question Number : 86 Question Id : 68634019832 Question Type : MCQ Option Shuffling : No Is Question Mandatory : No Calculator : None Response Time : N.A Think Time : N.A Minimum Instruction Time : 0

Correct Marks : 4 Wrong Marks : 1

Match List I with List II

LIST I		LIST II	
A.	Trombe wall	I.	A black water filled vessel absorbing solar radiation
B.	Brise -Soleli	II.	Class enclosed space for sun bathing
C.	Drum wall	III.	Glass front masonry absorbing solar radiation
D.	Solarium	IV.	Screen to shield the interiors from sunlight

Choose the correct answer from the options given below:

1. A-III, B-IV, C-I, D-II
2. A-IV, B-I, C-II, D-IV
3. A-III, B-I, C-II, D-IV
4. A-II, B-I, C-III, D-IV

Options :

68634078341. 1  
68634078342. 2  
68634078343. 3  
68634078344. 4

Question Number : 86 Question Id : 68634019832 Question Type : MCQ Option Shuffling : No Is Question Mandatory : No Calculator : None Response Time : N.A Think Time : N.A Minimum Instruction Time : 0

Correct Marks : 4 Wrong Marks : 1

सूची I का सूची II से मिलान कीजिए

सूची I		सूची II	
A.	ट्रम्बे की दीवार	I.	सौर विकिरण को अवशोषित करने वाला एक काले पानी से भरा बर्तन
B.	ब्रेल सोलील	II.	धूप सेंकने के लिए शीशे से घिरा स्थान
C.	ड्रम वाल	III.	कांच के सामने की गई चुनाई और विकिरण को अवशोषित करती है।
D.	सालेरियम	IV.	इंटीरियर को सूरज की रोशनी से बचाने के लिए स्क्रीन

निम्नलिखित विकल्पों में से सही उत्तर का चयन कीजिए :

1. A-III, B-IV, C-I, D-II
2. A-IV, B-I, C-II, D-IV
3. A-III, B-I, C-II, D-IV
4. A-II, B-I, C-III, D-IV

**Options :**

- 68634078341. 1
- 68634078342. 2
- 68634078343. 3
- 68634078344. 4

**Question Number : 87 Question Id : 68634019833 Question Type : MCQ Option Shuffling : No Is Question Mandatory : No Calculator : None Response Time : N.A Think Time : N.A Minimum Instruction Time : 0**

**Correct Marks : 4 Wrong Marks : 1**

Match List I with List II

LIST I		LIST II	
A.	Egyption	I.	New bonding material
B.	Greek	II.	Building Skeletion and Skin
C.	Roman	III.	Trabeation
D.	Gothic	IV.	Optical Correction

Choose the correct answer from the options given below:

- 1. A-II, B-I, C-III, D-IV
- 2. A-II, B-IV, C-I, D-II
- 3. A-I, B-II, C-III, D-IV
- 4. A-IV, B-III, C-II, D-I

**Options :**

- 68634078345. 1
- 68634078346. 2
- 68634078347. 3
- 68634078348. 4

**Question Number : 87 Question Id : 68634019833 Question Type : MCQ Option Shuffling : No Is Question Mandatory : No Calculator : None Response Time : N.A Think Time : N.A Minimum Instruction Time : 0**

**Correct Marks : 4 Wrong Marks : 1**

सूची I का सूची II से मिलान कीजिए

सूची I सभ्यताएं		सूची II आविष्कार	
A.	मिस्र	I.	नई बंधन सामग्री
B.	ग्रीक	II.	कंकाल और त्वचा का निर्माण
C.	रोमन	III.	भवन निर्माण में शहतीर का प्रयोग
D.	गोथिक	IV.	आष्टिक सुधार

निम्नलिखित विकल्पों में से सही उत्तर का चयन कीजिए :

1. A-II, B-I, C-III, D-IV

2. A-II, B-IV, C-I, D-II

3. A-I, B-II, C-III, D-IV

4. A-IV, B-III, C-II, D-I

**Options :**

68634078345. 1

68634078346. 2

68634078347. 3

68634078348. 4

**Question Number : 88 Question Id : 68634019834 Question Type : MCQ Option Shuffling : No Is Question Mandatory : No Calculator : None Response Time : N.A Think Time : N.A Minimum Instruction Time : 0**

**Correct Marks : 4 Wrong Marks : 1**

Match List I with List II

LIST I (Five Year Plan)		LIST II (Corresponding)	
A.	First five year plan	I.	Formation of HUDCO
B.	Fourth five year plan	II.	Establishment of TCP
C.	Seventh five year plan	III.	Introduction of JNNURM
D.	Tenth five year plan	IV.	Announcement of National Housing Policy

Choose the correct answer from the options given below:

1. A-I, B-II, C-IV, D-III

2. A-II, B-I, C-IV, D-III

3. A-IV, B-I, C-II, D-III

4. A-I, B-II, C-III, D-IV

**Options :**

68634078349. 1

68634078350. 2

68634078351. 3

68634078352. 4

**Question Number : 88 Question Id : 68634019834 Question Type : MCQ Option Shuffling : No Is Question Mandatory : No Calculator : None Response Time : N.A Think Time : N.A Minimum Instruction Time : 0 Correct Marks : 4 Wrong Marks : 1**

सूची I का सूची II से मिलान कीजिए

सूची I पंचवर्षीय योजना		सूची II के अनुरूप	
A.	पहली पंचवर्षीय योजना	I.	HUDCO का गठन
B.	चौथी पंचवर्षीय योजना	II.	TCP की स्थापना
C.	सातवीं पंचवर्षीय योजना	III.	JNNURM का परिचय
D.	दसवीं पंचवर्षीय योजना	IV.	नेशनल हाउसिंग पॉलिसी की घोषणा

निम्नलिखित विकल्पों में से सही उत्तर का चयन कीजिए :

1. A-I, B-II, C-IV, D-III
2. A-II, B-I, C-IV, D-III
3. A-IV, B-I, C-II, D-III
4. A-I, B-II, C-III, D-IV

**Options :**

68634078349. 1  
68634078350. 2  
68634078351. 3  
68634078352. 4

**Question Number : 89 Question Id : 68634019835 Question Type : MCQ Option Shuffling : No Is Question Mandatory : No Calculator : None Response Time : N.A Think Time : N.A Minimum Instruction Time : 0 Correct Marks : 4 Wrong Marks : 1**

As per CPWD guidelines and space standards for barrier free built environment ,the minimum turning radius for a wheelchair in mm is:

1. 900
2. 1200
3. 1500
4. 1800

**Options :**

68634078353. 1  
68634078354. 2  
68634078355. 3  
68634078356. 4

**Question Number : 89 Question Id : 68634019835 Question Type : MCQ Option Shuffling : No Is Question Mandatory : No Calculator : None Response Time : N.A Think Time : N.A Minimum Instruction Time : 0**

**Correct Marks : 4 Wrong Marks : 1**

CPWD के दिशा निर्देश और स्थान मानकों के अनुसार बिना किसी बाधा के एक व्हील चेयर (कुर्सी) के निर्माण के लिए न्यूनतम त्रिज्या क्या होगी मिलीमीटर में

1. 900
2. 1200
3. 1500
4. 1800

**Options :**

68634078353. 1  
68634078354. 2  
68634078355. 3  
68634078356. 4

**Question Number : 90 Question Id : 68634019836 Question Type : MCQ Option Shuffling : No Is Question Mandatory : No Calculator : None Response Time : N.A Think Time : N.A Minimum Instruction Time : 0**

**Correct Marks : 4 Wrong Marks : 1**

Match List I with List II

LIST I		LIST II	
A.	Residential	I.	Green
B.	Commercial	II.	Blue
C.	Industrial	III.	Voilet
D.	Forest land	IV.	Yellow

Choose the correct answer from the options given below:

1. A-IV, B-II, C-III, D-I
2. A-III, B-II, C-IV, D-I
3. A-I, B-II, C-IV, D-III
4. A-II, B-IV, C-I, D-IV

**Options :**

68634078357. 1  
68634078358. 2  
68634078359. 3  
68634078360. 4

**Question Number : 90 Question Id : 68634019836 Question Type : MCQ Option Shuffling : No Is Question Mandatory : No Calculator : None Response Time : N.A Think Time : N.A Minimum Instruction Time : 0**

**Correct Marks : 4 Wrong Marks : 1**

सूची I का सूची II से मिलान कीजिए

सूची I भूमि उपयोग		सूची II रंग संहिता (कोड)	
A.	आवासीय	I.	ग्रीन
B.	वाणिज्यिक	II.	नीला
C.	औद्योगिक	III.	बैंगनी
D.	जंगल की जमीन	IV.	पीली

निम्नलिखित विकल्पों में से सही उत्तर का चयन कीजिए :

1. A-IV, B-II, C-III, D-I

2. A-III, B-II, C-IV, D-I

3. A-I, B-II, C-IV, D-III

4. A-II, B-IV, C-I, D-IV

**Options :**

68634078357. 1

68634078358. 2

68634078359. 3

68634078360. 4

**Question Number : 91 Question Id : 68634019837 Question Type : MCQ Option Shuffling : No Is Question Mandatory : No Calculator : None Response Time : N.A Think Time : N.A Minimum Instruction Time : 0**

**Correct Marks : 4 Wrong Marks : 1**

Match List I with List II

LIST I		LIST II	
A.	Rad burn	I.	Linear
B.	Broadacre	II.	Grid iron Pattern
C.	Chandigarh	III.	Town of the motor age
D.	Letchworth	IV.	Garden city

Choose the correct answer from the options given below:

1. A-III, B-I, C-II, D-IV

2. A-I, B-III, C-II, D-IV

3. A-IV, B-II, C-I, D-III

4. A-IV, B-II, C-III, D-I

**Options :**

68634078361. 1

68634078362. 2

68634078363. 3

68634078364. 4

Question Number : 91 Question Id : 68634019837 Question Type : MCQ Option Shuffling : No Is Question Mandatory : No Calculator : None Response Time : N.A Think Time : N.A Minimum Instruction Time : 0

Correct Marks : 4 Wrong Marks : 1

सूची I का सूची II से मिलान कीजिए

सूची I शहर		सूची II अवधारणा	
A.	रेडबर्न सिटी	I.	लीनियर
B.	ब्रॉडएकर	II.	ग्रिड आयरन पैटर्न
C.	चंडीगढ़	III.	टाउन ऑफ मोटर ऐज
D.	लेट वर्थ	IV.	गार्डन सिटी

निम्नलिखित विकल्पों में से सही उत्तर का चयन कीजिए :

1. A-III, B-I, C-II, D-IV
2. A-I, B-III, C-II, D-IV
3. A-IV, B-II, C-I, D-III
4. A-IV, B-II, C-III, D-I

Options :

68634078361. 1
68634078362. 2
68634078363. 3
68634078364. 4

Question Number : 92 Question Id : 68634019838 Question Type : MCQ Option Shuffling : No Is Question Mandatory : No Calculator : None Response Time : N.A Think Time : N.A Minimum Instruction Time : 0

Correct Marks : 4 Wrong Marks : 1

Match List I with List II

LIST I		LIST II	
A.	City development plan	I.	PMGSY
B.	Slum free city	II.	JNNURM
C.	Transport Network Plan in rural area	III.	RAY
D.	Disaster Network Plan	IV.	NDMA

Choose the correct answer from the options given below:

1. A-II, B-III, C-I, D-IV
2. A-II, B-I, C-III, D-IV
3. A-I, B-III, C-II, D-IV
4. A-III, B-II, C-I, D-IV

Options :

68634078365. 1
68634078366. 2

68634078367. 3

68634078368. 4

**Question Number : 92 Question Id : 68634019838 Question Type : MCQ Option Shuffling : No Is Question Mandatory : No Calculator : None Response Time : N.A Think Time : N.A Minimum Instruction Time : 0 Correct Marks : 4 Wrong Marks : 1**

सूची I का सूची II से मिलान कीजिए

सूची I योजना		सूची II	
A.	शहरी विकास योजना	I.	पीएमजीएमवाई
B.	झोपड़-पट्टी रहित शहर	II.	जेएनएनयूआरएम
C.	ग्रामीण क्षेत्र में परिवहन परियोजना	III.	आरएवाई
D.	आपदा नेटवर्क योजना	IV.	एनडीएमए

निम्नलिखित विकल्पों में से सही उत्तर का चयन कीजिए :

1. A-II, B-III, C-I, D-IV
2. A-II, B-I, C-III, D-IV
3. A-I, B-III, C-II, D-IV
4. A-III, B-II, C-I, D-IV

**Options :**

68634078365. 1

68634078366. 2

68634078367. 3

68634078368. 4

**Question Number : 93 Question Id : 68634019839 Question Type : MCQ Option Shuffling : No Is Question Mandatory : No Calculator : None Response Time : N.A Think Time : N.A Minimum Instruction Time : 0 Correct Marks : 4 Wrong Marks : 1**

Given below are two statements:

**Statement I :** Bhunga house is related to Architecture with Architect.

**Statement II :** Bhunga house is related to Architecture without Architect.

In the light of the above statements, choose the correct answer from the options given below:

1. Both Statement I and Statement II are true
2. Both Statement I and Statement II are false
3. Statement I is correct but Statement II is false
4. Statement I is incorrect but Statement II is true

**Options :**

68634078369. 1



68634078370. 2

68634078371. 3

68634078372. 4

**Question Number : 93 Question Id : 68634019839 Question Type : MCQ Option Shuffling : No Is Question Mandatory : No Calculator : None Response Time : N.A Think Time : N.A Minimum Instruction Time : 0**

**Correct Marks : 4 Wrong Marks : 1**

नीचे दो कथन दिए गए हैं:

**कथन I :** वास्तुकार के साथ वास्तुकला के लिए भुंगा घर संमधित।

**कथन II :** भुंगा घर बिना वास्तुकार के वास्तुकला से संबंधित है ।

उपरोक्त कथन के आलोक में, नीचे दिए गए विकल्पों में से सबसे उपयुक्त उत्तर का चयन कीजिए:

1. कथन I और कथन II दोनों सही हैं
2. कथन I और कथन II दोनों गलत हैं
3. कथन I सही है, लेकिन कथन II गलत है
4. कथन I गलत है, लेकिन कथन II सही है

**Options :**

68634078369. 1

68634078370. 2

68634078371. 3

68634078372. 4

**Question Number : 94 Question Id : 68634019840 Question Type : MCQ Option Shuffling : No Is Question Mandatory : No Calculator : None Response Time : N.A Think Time : N.A Minimum Instruction Time : 0**

**Correct Marks : 4 Wrong Marks : 1**

Which one of the following city comes under UNESCO- world heritage city-

1. Delhi
2. Ahmedabad
3. Kolkata
4. Mumbai

**Options :**

68634078373. 1

68634078374. 2

68634078375. 3

68634078376. 4

**Question Number : 94 Question Id : 68634019840 Question Type : MCQ Option Shuffling : No Is Question Mandatory : No Calculator : None Response Time : N.A Think Time : N.A Minimum Instruction Time : 0**

**Correct Marks : 4 Wrong Marks : 1**

निम्नलिखित में से कौन सा शहर यूनेस्को विश्व धरोहर के अंतर्गत आता है-

1. दिल्ली
2. अहमदाबाद
3. कोलकाता
4. मुंबई

**Options :**

68634078373. 1  
68634078374. 2  
68634078375. 3  
68634078376. 4

**Question Number : 95 Question Id : 68634019841 Question Type : MCQ Option Shuffling : No Is Question Mandatory : No Calculator : None Response Time : N.A Think Time : N.A Minimum Instruction Time : 0**

**Correct Marks : 4 Wrong Marks : 1**

Which of the following is not included in the UDPFI guidelines urban development ?

1. Perspective Plan
2. Development Plans
3. City Development Plans
4. Annual Plans

**Options :**

68634078377. 1  
68634078378. 2  
68634078379. 3  
68634078380. 4

**Question Number : 95 Question Id : 68634019841 Question Type : MCQ Option Shuffling : No Is Question Mandatory : No Calculator : None Response Time : N.A Think Time : N.A Minimum Instruction Time : 0**

**Correct Marks : 4 Wrong Marks : 1**

निम्नलिखित में से कौन शहरी विकास के लिए यूडीपीएफआई दिशा निर्देशों में शामिल नहीं है।

1. परिप्रेक्ष्य योजना
2. विकास योजना
3. शहरी विकास योजना
4. वार्षिक योजना

**Options :**

68634078377. 1  
68634078378. 2  
68634078379. 3  
68634078380. 4

**Question Number : 96 Question Id : 68634019842 Question Type : MCQ Option Shuffling : No Is Question Mandatory : No Calculator : None Response Time : N.A Think Time : N.A Minimum Instruction Time : 0 Correct Marks : 4 Wrong Marks : 1**

Which one of the following is NOT a traffic calming measure ?

1. Rumble strips
2. Roundabouts
3. Pedestrian Crossings
4. Roadside trees

**Options :**

68634078381. 1  
68634078382. 2  
68634078383. 3  
68634078384. 4

**Question Number : 96 Question Id : 68634019842 Question Type : MCQ Option Shuffling : No Is Question Mandatory : No Calculator : None Response Time : N.A Think Time : N.A Minimum Instruction Time : 0 Correct Marks : 4 Wrong Marks : 1**

निम्नलिखित में से कौनसा यातायात शांत करने का उपाय नहीं है।

1. गड़गड़ाहट की पट्टी
2. राउंड अबाउट (गोलचक्कर)
3. पैदल पार पथ
4. सड़क के साथ लगे वृक्ष

**Options :**

68634078381. 1

68634078382. 2

68634078383. 3

68634078384. 4

**Question Number : 97 Question Id : 68634019843 Question Type : MCQ Option Shuffling : No Is Question Mandatory : No Calculator : None Response Time : N.A Think Time : N.A Minimum Instruction Time : 0**

**Correct Marks : 4 Wrong Marks : 1**

Prof. B.V Doshi was awarded Padma Vibhushan (Post thumous) in which year?

1. 2020

2. 2021

3. 2022

4. 2023

**Options :**

68634078385. 1

68634078386. 2

68634078387. 3

68634078388. 4

**Question Number : 97 Question Id : 68634019843 Question Type : MCQ Option Shuffling : No Is Question Mandatory : No Calculator : None Response Time : N.A Think Time : N.A Minimum Instruction Time : 0**

**Correct Marks : 4 Wrong Marks : 1**

प्रोफेसर बी.वी दोशी को किस वर्ष में पद्म विभूषण से सम्मानित किया गया है?

1. 2020

2. 2021

3. 2022

4. 2023

**Options :**

68634078385. 1

68634078386. 2

68634078387. 3

68634078388. 4

**Question Number : 98 Question Id : 68634019844 Question Type : MCQ Option Shuffling : No Is Question Mandatory : No Calculator : None Response Time : N.A Think Time : N.A Minimum Instruction Time : 0**

**Correct Marks : 4 Wrong Marks : 1**

'AMRUT' the new scheme Launched by Government of India stands for

1. Atal mission for Rejuvenation and Urban Transformation
2. Atal mission for renewal of Urban Transportation
3. Atal mission for Redevelopment of Urban Transportation
4. Atal mission for Renewal and Urban Transformation

**Options :**

- 68634078389. 1
- 68634078390. 2
- 68634078391. 3
- 68634078392. 4

**Question Number : 98 Question Id : 68634019844 Question Type : MCQ Option Shuffling : No Is Question Mandatory : No Calculator : None Response Time : N.A Think Time : N.A Minimum Instruction Time : 0**

**Correct Marks : 4 Wrong Marks : 1**

'एएमआरयूटी' योजना भारत सरकार ने शुरू की जिसका पूर्ण रूप है।

1. अटल मिशन फॉर रिजूवेनशन एण्ड अर्बन ट्रांसफॉर्मेशन
2. अटल मिशन फॉर रिन्यूवल ऑफ अर्बन ट्रांसपोर्टेशन
3. अटल मिशन फॉर रिडवलपमेंट ऑफ अर्बन ट्रांसपोर्टेशन
4. अटल मिशन फॉर रिन्यूवल एण्ड अर्बन ट्रांसपोर्टेशन

**Options :**

- 68634078389. 1
- 68634078390. 2
- 68634078391. 3
- 68634078392. 4

**Question Number : 99 Question Id : 68634019845 Question Type : MCQ Option Shuffling : No Is Question Mandatory : No Calculator : None Response Time : N.A Think Time : N.A Minimum Instruction Time : 0**

**Correct Marks : 4 Wrong Marks : 1**

The concept of transit Oriented Development (TOD) refers to :

1. Transit oriented planning in institutional campuses
2. High density development along a mass transit corridor
3. Orienting residential blocks towards the transit in a gated community
4. Spatial design for person with disabilities along a mass transit order .

**Options :**

68634078393. 1  
68634078394. 2  
68634078395. 3  
68634078396. 4

**Question Number : 99 Question Id : 68634019845 Question Type : MCQ Option Shuffling : No Is Question Mandatory : No Calculator : None Response Time : N.A Think Time : N.A Minimum Instruction Time : 0**  
**Correct Marks : 4 Wrong Marks : 1**

'ट्रांजिट ओरिन्टीड डवलपमेंट' अवधारणा किसे संदर्भित करता है।

1. संस्थागत परिसरों में परगमन उन्मुख योजना
2. ट्रांजिट कॉरिडोर के साथ उच्च घनत्व विकास
3. आवासीय ब्लॉक में द्वार के रास्ते समुदाय में पारगमन करना
4. बहुल ट्रांजिट ऑर्डर के साथ विकलांग व्यक्तियों के लिए स्थानिक डिजाइन करना

**Options :**

68634078393. 1  
68634078394. 2  
68634078395. 3  
68634078396. 4

**Question Number : 100 Question Id : 68634019846 Question Type : MCQ Option Shuffling : No Is Question Mandatory : No Calculator : None Response Time : N.A Think Time : N.A Minimum Instruction Time : 0**  
**Correct Marks : 4 Wrong Marks : 1**

Given below are two statements:

**Statement I :** Guggenheim museum Bilbao is designed by Ar. Frank Gehry.

**Statement II :** It is a perfect example of Brutalism.

In the light of the above statements, choose the correct answer from the options given below:

1. Both Statement I and Statement II are true
2. Both Statement I and Statement II are false
3. Statement I is correct but Statement II is false
4. Statement I is incorrect but Statement II is true

**Options :**

68634078397. 1  
68634078398. 2  
68634078399. 3  
68634078400. 4

**Question Number : 100 Question Id : 68634019846 Question Type : MCQ Option Shuffling : No Is Question Mandatory : No Calculator : None Response Time : N.A Think Time : N.A Minimum Instruction Time : 0**

**Correct Marks : 4 Wrong Marks : 1**

नीचे दो कथन दिए गए हैं:

**कथन I :** वास्तुकार फ्रैंक गेहरीने 'गुगेनहेम संग्रहालय बिलवाओ' की रचना की।

**कथन II :** यह ब्रुतलेजिम का एक आदर्श उदाहरण है।

उपरोक्त कथन के आलोक में, नीचे दिए गए विकल्पों में से सबसे उपयुक्त उत्तर का चयन कीजिए:

1. कथन I और कथन II दोनों सही हैं
2. कथन I और कथन II दोनों गलत हैं
3. कथन I सही है, लेकिन कथन II गलत है
4. कथन I गलत है, लेकिन कथन II सही है

**Options :**

68634078397. 1

68634078398. 2

68634078399. 3

68634078400. 4