

National Testing Agency

Question Paper Name : 03 23062023
Subject Name : 23JunShift3 Subject Combination
International
Creation Date : 2023-06-23 21:30:32
Duration : 240
Total Marks : 1050
Display Marks: Yes

English

Group Number : 1
Group Id : 540250334
Group Maximum Duration : 45
Group Minimum Duration : 45
Show Attended Group? : No
Edit Attended Group? : No
Break time : 0
Group Marks : 200
Is this Group for Examiner? : No
Examiner permission : Cant View
Show Progress Bar? : No

English

Section Id : 540250404
Section Number : 1

Section type : Online
Mandatory or Optional : Mandatory
Number of Questions : 50
Number of Questions to be attempted : 40
Section Marks : 200
Enable Mark as Answered Mark for Review and Clear Response : Yes
Maximum Instruction Time : 0
Sub-Section Number : 1
Sub-Section Id : 5402501134
Question Shuffling Allowed : No
Is Section Default? : null

Question Number : 1 Question Id : 54025016071 Question Type : MCQ Option Shuffling : No Is Question Mandatory : No Calculator : None Response Time : N.A Think Time : N.A Minimum Instruction Time : 0

Correct Marks : 5 Wrong Marks : 1

Question Key Details :

Key	Value
Comprehension	Comp1

Read the following passage Answer the Questions :

The ridge at this point about fifty yards wide, and as the hut was on the south edge of the ridge, and the village on the north face of the hill, the latter was not visible from the former. I had been sitting on the rock for ten minutes when a head appeared over the crest from the direction of the village, followed by a second and a third. My friend the water-carrier had not been slow in informing the village of my arrival.

When strangers meet in India and wish to glean information from each other on any particular subject, it is customary to refrain from broaching the subject that has brought them together - whether accidentally or of set purpose - until the very last moment and to fill up the interval by finding out everything concerning each other's domestic and private affairs; as, for instance, whether married and if so the number and sex of children and their ages; if not married, why not; occupation and amount of pay, and so on. Questions that would in any other part of the world earn one a thick ear, are in India - and especially in our hills - asked so artlessly and universally that no one who has lived among the people, dreams of taking offence at them.

Where was the narrator sitting when he saw someone coming ?

- (1) the rock
- (2) the crest
- (3) the ridge
- (4) the hill

Options :

54025064281. 1

54025064282. 2

54025064283. 3

54025064284. 4

Question Number : 2 Question Id : 54025016072 Question Type : MCQ Option Shuffling : No Is

Question Mandatory : No Calculator : None Response Time : N.A Think Time : N.A Minimum

Instruction Time : 0

Correct Marks : 5 Wrong Marks : 1

Question Key Details :

Key	Value
Comprehension	Comp1

Read the following passage Answer the Questions :

The ridge at this point about fifty yards wide, and as the hut was on the south edge of the ridge, and the village on the north face of the hill, the latter was not visible from the former. I had been sitting on the rock for ten minutes when a head appeared over the crest from the direction of the village, followed by a second and a third. My friend the water-carrier had not been slow in informing the village of my arrival.

When strangers meet in India and wish to glean information from each other on any particular subject, it is customary to refrain from broaching the subject that has brought them together - whether accidentally or of set purpose - until the very last moment and to fill up the interval by finding out everything concerning each other's domestic and private affairs; as, for instance, whether married and if so the number and sex of children and their ages; if not married, why not; occupation and amount of pay, and so on. Questions that would in any other part of the world earn one a thick ear, are in India - and especially in our hills - asked so artlessly and universally that no one who has lived among the people, dreams of taking offence at them.

In the context of the passage what does it mean to 'earn a thick ear' ?

- (1) act against your interest
- (2) catch a disease
- (3) make a big mistake
- (4) get punished

Options :

54025064285. 1

54025064286. 2

54025064287. 3

54025064288. 4

Question Number : 3 Question Id : 54025016073 Question Type : MCQ Option Shuffling : No Is

Question Mandatory : No Calculator : None Response Time : N.A Think Time : N.A Minimum

Instruction Time : 0

Correct Marks : 5 Wrong Marks : 1

Question Key Details :

Key	Value
Comprehension	Comp1

Read the following passage Answer the Questions :

The ridge at this point about fifty yards wide, and as the hut was on the south edge of the ridge, and the village on the north face of the hill, the latter was not visible from the former. I had been sitting on the rock for ten minutes when a head appeared over the crest from the direction of the village, followed by a second and a third. My friend the water-carrier had not been slow in informing the village of my arrival.

When strangers meet in India and wish to glean information from each other on any particular subject, it is customary to refrain from broaching the subject that has brought them together - whether accidentally or of set purpose - until the very last moment and to fill up the interval by finding out everything concerning each other's domestic and private affairs; as, for instance, whether married and if so the number and sex of children and their ages; if not married, why not; occupation and amount of pay, and so on. Questions that would in any other part of the world earn one a thick ear, are in India - and especially in our hills - asked so artlessly and universally that no one who has lived among the people, dreams of taking offence at them.

Who were likely to be offended by their artless questions ?

- (1) Villagers
- (2) Water carrier
- (3) People from the hills
- (4) None of the above

Options :

54025064289. 1

54025064290. 2

54025064291. 3

54025064292. 4

Question Number : 4 Question Id : 54025016074 Question Type : MCQ Option Shuffling : No Is

Question Mandatory : No Calculator : None Response Time : N.A Think Time : N.A Minimum

Instruction Time : 0

Correct Marks : 5 Wrong Marks : 1

Question Key Details :

Key	Value
Comprehension	Comp1

Read the following passage Answer the Questions :

The ridge at this point about fifty yards wide, and as the hut was on the south edge of the ridge, and the village on the north face of the hill, the latter was not visible from the former. I had been sitting on the rock for ten minutes when a head appeared over the crest from the direction of the village, followed by a second and a third. My friend the water-carrier had not been slow in informing the village of my arrival.

When strangers meet in India and wish to glean information from each other on any particular subject, it is customary to refrain from broaching the subject that has brought them together - whether accidentally or of set purpose - until the very last moment and to fill up the interval by finding out everything concerning each other's domestic and private affairs; as, for instance, whether married and if so the number and sex of children and their ages; if not married, why not; occupation and amount of pay, and so on. Questions that would in any other part of the world earn one a thick ear, are in India - and especially in our hills - asked so artlessly and universally that no one who has lived among the people, dreams of taking offence at them.

Choose the factually correct sentences from the following :

- (A) The village was visible from the hut.
- (B) The hut was on the south edge of the ridge
- (C) The water carrier came from the direction of the village
- (D) The villagers came with urgent news
- (E) The villagers asked the narrator many questions

Choose the **correct** answer from the options given below :

- (1) (A), (C), (D) Only
- (2) (B) and (E) Only
- (3) (A), (B) and (E) Only
- (4) (C) and (D) Only

Options :

54025064293. 1

54025064294. 2

54025064295. 3

54025064296. 4

Question Number : 5 Question Id : 54025016075 Question Type : MCQ Option Shuffling : No Is Question Mandatory : No Calculator : None Response Time : N.A Think Time : N.A Minimum Instruction Time : 0

Correct Marks : 5 Wrong Marks : 1

Question Key Details :

Key	Value
Comprehension	Comp1

Read the following passage Answer the Questions :

The ridge at this point about fifty yards wide, and as the hut was on the south edge of the ridge, and the village on the north face of the hill, the latter was not visible from the former. I had been sitting on the rock for ten minutes when a head appeared over the crest from the direction of the village, followed by a second and a third. My friend the water-carrier had not been slow in informing the village of my arrival.

When strangers meet in India and wish to glean information from each other on any particular subject, it is customary to refrain from broaching the subject that has brought them together - whether accidentally or of set purpose - until the very last moment and to fill up the interval by finding out everything concerning each other's domestic and private affairs; as, for instance, whether married and if so the number and sex of children and their ages; if not married, why not; occupation and amount of pay, and so on. Questions that would in any other part of the world earn one a thick ear, are in India - and especially in our hills - asked so artlessly and universally that no one who has lived among the people, dreams of taking offence at them.

Match List - I with List - II.

List - I

List - II

- | | |
|---------------|--------------|
| (A) customary | (I) raise |
| (B) glean | (II) usual |
| (C) broach | (III) gather |
| (D) refrain | (IV) stop |

Choose the **correct** answer from the options given below :

- (1) (A)-(IV), (B)-(I), (C)-(III), (D)-(II)
- (2) (A)-(III), (B)-(II), (C)-(IV), (D)-(I)
- (3) (A)-(II), (B)-(III), (C)-(I), (D)-(IV)
- (4) (A)-(I), (B)-(IV), (C)-(II), (D)-(III)

Options :

54025064297. 1

54025064298. 2

54025064299. 3

54025064300.4

Sub-Section Number : 2
Sub-Section Id : 5402501135
Question Shuffling Allowed : No
Is Section Default? : null

Question Number : 6 Question Id : 54025016076 Question Type : MCQ Option Shuffling : No Is Question Mandatory : No Calculator : None Response Time : N.A Think Time : N.A Minimum Instruction Time : 0

Correct Marks : 5 Wrong Marks : 1

Question Key Details :

Key	Value
Comprehension	Comp2

Read the following passage answer the Questions :

In 1984, the French and the British agreed that a link across the English Channel would be mutually beneficial. However, both the Governments realised that although the project would create the much needed jobs, neither country's Government could fund such a massive project. Thus, they decided to hold a contest.

This contest invited companies to submit their plan to create a link across the English Channel. As part of the contest's requirements, the submitting company was to provide a plan to raise the needed funds to build the project, have the ability to operate the proposed Channel link once the project was completed, and the proposed link must be able to endure for at least 120 years.

Ten proposals were submitted, including various tunnels and bridges. Some of the proposals were so outlandish in design that they were easily dismissed; others would be so expensive that they were unlikely to ever be completed. The successful proposal planned for a tunnel made up of two, parallel railway tunnels that would be dug under the English Channel. Between these two railway tunnels would run a third, smaller tunnel that would be used for maintenance, including drainage pipes, communication cables etc.

After the first testrun on 10 December 1993, the Channel Tunnel officially opened on 6 may 1994.

What did the context involving the competing companies require ? Choose the **incorrect** option.

- (1) The companies were supposed to provide a plan to raise the needed funds to build the project.
- (2) The companies were expected to operate the proposed channel link once the project was completed.
- (3) The link across the English Channel was supposed to be outlandish. The companies were asked to keep that in mind.
- (4) The link must be able to endure for at least 120 years.

Options :

54025064301. 1

54025064302. 2

54025064303. 3

54025064304. 4

Question Number : 7 Question Id : 54025016077 Question Type : MCQ Option Shuffling : No Is

Question Mandatory : No Calculator : None Response Time : N.A Think Time : N.A Minimum

Instruction Time : 0

Correct Marks : 5 Wrong Marks : 1

Question Key Details :

Key	Value
Comprehension	Comp2

Read the following passage answer the Questions :

In 1984, the French and the British agreed that a link across the English Channel would be mutually beneficial. However, both the Governments realised that although the project would create the much needed jobs, neither country's Government could fund such a massive project. Thus, they decided to hold a contest.

This contest invited companies to submit their plan to create a link across the English Channel. As part of the contest's requirements, the submitting company was to provide a plan to raise the needed funds to build the project, have the ability to operate the proposed Channel link once the project was completed, and the proposed link must be able to endure for at least 120 years.

Ten proposals were submitted, including various tunnels and bridges. Some of the proposals were so outlandish in design that they were easily dismissed; others would be so expensive that they were unlikely to ever be completed. The successful proposal planned for a tunnel made up of two, parallel railway tunnels that would be dug under the English Channel. Between these two railway tunnels would run a third, smaller tunnel that would be used for maintenance, including drainage pipes, communication cables etc.

After the first testrun on 10 December 1993, the Channel Tunnel officially opened on 6 may 1994. Arrange the following sentences in their order of occurrence in the passage.

- (A) The successful proposal planned for a tunnel made up of two, parallel railway tunnels that would be dug.
- (B) The proposed link must be able to endure for atleast 120 years.
- (C) They decided to hold a contest
- (D) A third smaller tunnel would be used for maintenance.
- (E) Both the Governments realized that although the project would create the much needed jobs, neither could fund it.

Choose the **correct** answer from the options given below :

- (1) (A), (B), (D), (C), (E)
- (2) (E), (B), (C), (D), (A)
- (3) (E), (C), (B), (A), (D)
- (4) (C), (A), (B), (E), (D)

Options :

54025064305. 1

54025064306. 2

54025064307. 3

Question Number : 8 Question Id : 54025016078 Question Type : MCQ Option Shuffling : No Is Question Mandatory : No Calculator : None Response Time : N.A Think Time : N.A Minimum Instruction Time : 0

Correct Marks : 5 Wrong Marks : 1

Question Key Details :

Key	Value
Comprehension	Comp2

Read the following passage answer the Questions :

In 1984, the French and the British agreed that a link across the English Channel would be mutually beneficial. However, both the Governments realised that although the project would create the much needed jobs, neither country's Government could fund such a massive project. Thus, they decided to hold a contest.

This contest invited companies to submit their plan to create a link across the English Channel. As part of the contest's requirements, the submitting company was to provide a plan to raise the needed funds to build the project, have the ability to operate the proposed Channel link once the project was completed, and the proposed link must be able to endure for at least 120 years.

Ten proposals were submitted, including various tunnels and bridges. Some of the proposals were so outlandish in design that they were easily dismissed; others would be so expensive that they were unlikely to ever be completed. The successful proposal planned for a tunnel made up of two, parallel railway tunnels that would be dug under the English Channel. Between these two railway tunnels would run a third, smaller tunnel that would be used for maintenance, including drainage pipes, communication cables etc.

After the first testrun on 10 December 1993, the Channel Tunnel officially opened on 6 may 1994.

What would be the appropriate meaning of the word "shuttle" ?

- (1) a form of transport that travels regularly between two places.
- (2) a submarine based vehicle to more goods.
- (3) a type of tram.
- (4) a concered motor vehicle that sporadically travels to end from the station.

Options :

54025064309. 1

54025064310. 2

54025064311. 3

Question Number : 9 Question Id : 54025016079 Question Type : MCQ Option Shuffling : No Is Question Mandatory : No Calculator : None Response Time : N.A Think Time : N.A Minimum Instruction Time : 0

Correct Marks : 5 Wrong Marks : 1

Question Key Details :

Key	Value
Comprehension	Comp2

Read the following passage answer the Questions :

In 1984, the French and the British agreed that a link across the English Channel would be mutually beneficial. However, both the Governments realised that although the project would create the much needed jobs, neither country's Government could fund such a massive project. Thus, they decided to hold a contest.

This contest invited companies to submit their plan to create a link across the English Channel. As part of the contest's requirements, the submitting company was to provide a plan to raise the needed funds to build the project, have the ability to operate the proposed Channel link once the project was completed, and the proposed link must be able to endure for at least 120 years.

Ten proposals were submitted, including various tunnels and bridges. Some of the proposals were so outlandish in design that they were easily dismissed; others would be so expensive that they were unlikely to ever be completed. The successful proposal planned for a tunnel made up of two, parallel railway tunnels that would be dug under the English Channel. Between these two railway tunnels would run a third, smaller tunnel that would be used for maintenance, including drainage pipes, communication cables etc.

After the first testrun on 10 December 1993, the Channel Tunnel officially opened on 6 may 1994. When was the first test run completed through the Channel Tunnel ?

- (1) 6 May, 1994
- (2) 10 December, 1993
- (3) 6 August, 1993
- (4) 11 December, 1994

Options :

54025064313. 1

54025064314. 2

54025064315. 3

Question Number : 10 Question Id : 54025016080 Question Type : MCQ Option Shuffling : No

Is Question Mandatory : No Calculator : None Response Time : N.A Think Time : N.A

Minimum Instruction Time : 0

Correct Marks : 5 Wrong Marks : 1

Question Key Details :

Key	Value
Comprehension	Comp2

Read the following passage answer the Questions :

In 1984, the French and the British agreed that a link across the English Channel would be mutually beneficial. However, both the Governments realised that although the project would create the much needed jobs, neither country's Government could fund such a massive project. Thus, they decided to hold a contest.

This contest invited companies to submit their plan to create a link across the English Channel. As part of the contest's requirements, the submitting company was to provide a plan to raise the needed funds to build the project, have the ability to operate the proposed Channel link once the project was completed, and the proposed link must be able to endure for at least 120 years.

Ten proposals were submitted, including various tunnels and bridges. Some of the proposals were so outlandish in design that they were easily dismissed; others would be so expensive that they were unlikely to ever be completed. The successful proposal planned for a tunnel made up of two, parallel railway tunnels that would be dug under the English Channel. Between these two railway tunnels would run a third, smaller tunnel that would be used for maintenance, including drainage pipes, communication cables etc.

After the first testrun on 10 December 1993, the Channel Tunnel officially opened on 6 may 1994.

Which of the following statement is **incorrect** with respect to the given passage ?

- (1) The smaller tunnel was to be used to provide a passage for aquatic animals.
- (2) Shuttles would be able to hold cars and trucks.
- (3) Some trains would carry passengers only.
- (4) Most of the proposal to build the link were rejected.

Options :

54025064317. 1

54025064318. 2

54025064319. 3

54025064320.4

Sub-Section Number : 3
Sub-Section Id : 5402501136
Question Shuffling Allowed : No
Is Section Default? : null

Question Number : 11 Question Id : 54025016081 Question Type : MCQ Option Shuffling : No

Is Question Mandatory : No Calculator : None Response Time : N.A Think Time : N.A

Minimum Instruction Time : 0

Correct Marks : 5 Wrong Marks : 1

Question Key Details :

Key	Value
Comprehension	Comp3

Read the following passage. Answer questions :

When I was a small child my grandparents would take me blackberry picking. It was usually late August when the blackberries had fully ripened. Grandad would drive us in his old van. Despite not being comfortable or particularly safe, Grandad's van had a character you would not find in sleek new car complete with the latest innovations and a silent engine. Being seven or eight at the time, I always enjoyed a trip as we bounced along to our destination.

My grandparents always chose the same spot. Wild blackberry bushes stretched along the roadside as far as the eye could see in the both directions. The road overlooked a small pitch and putt course. On such sunny summer days it was always full. Golfers ambled sedately from hole and the crack of metal striking ball was a constant accompaniment.

Several hours of picking berries ensured. Nana warned me not to eat any until they had all been washed but turned a knowing blind eye while I gorged anyway. I also helped myself to the occasional unripe red berry as I had a particular taste for anything bitter. The fully immature green berries proved a step too far for even my pallet and were merely unpleasant.

When at last we were finished the bright scenery had turned to lengthy shadows and the afternoon had elapsed into evening. Grandad hauled a bin bag half full of berries back to the van. Juice bled slowly onto the ground. Nana would later make apple and blackberry tarts and fill several jars with jam. When I reached the van my stomach hurt from too much fruit. My hands stung from constant thorn pricks and were strained dark purple. I always enjoyed those days.

Arrange the sentences in its order of occurrence :

- (A) Nana warned me not to eat any until they had all been washed but turned a knowing blind eye while I gorged anyway.
- (B) I always enjoyed a trip as we bounced along to our destination.
- (C) The road overlooked a small pitch and putt course.
- (D) Nana would later make apple and blackberry tarts.
- (E) Grandad's van had a character you would not find in a sleek new car.

Choose the **correct** answer from the options given below :

- (1) (B), (E), (A), (C), (D)
- (2) (C), (B), (E), (A), (D)
- (3) (E), (B), (C), (A), (D)
- (4) (D), (A), (E), (B), (C)

Options :

54025064321. 1

54025064322. 2

54025064323. 3

54025064324. 4

Question Number : 12 Question Id : 54025016082 Question Type : MCQ Option Shuffling : No

Is Question Mandatory : No Calculator : None Response Time : N.A Think Time : N.A

Minimum Instruction Time : 0

Correct Marks : 5 Wrong Marks : 1

Question Key Details :

Key	Value
Comprehension	Comp3

Read the following passage. Answer questions :

When I was a small child my grandparents would take me blackberry picking. It was usually late August when the blackberries had fully ripened. Grandad would drive us in his old van. Despite not being comfortable or particularly safe, Grandad's van had a character you would not find in sleek new car complete with the latest innovations and a silent engine. Being seven or eight at the time, I always enjoyed a trip as we bounced along to our destination.

My grandparents always chose the same spot. Wild blackberry bushes stretched along the roadside as far as the eye could see in the both directions. The road overlooked a small pitch and putt course. On such sunny summer days it was always full. Golfers ambled sedately from hole and the crack of metal striking ball was a constant accompaniment.

Several hours of picking berries ensured. Nana warned me not to eat any until they had all been washed but turned a knowing blind eye while I gorged anyway. I also helped myself to the occasional unripe red berry as I had a particular taste for anything bitter. The fully immature green berries proved a step too far for even my pallet and were merely unpleasant.

When at last we were finished the bright scenery had turned to lengthy shadows and the afternoon had elapsed into evening. Grandad hauled a bin bag half full of berries back to the van. Juice bled slowly onto the ground. Nana would later make apple and blackberry tarts and fill several jars with jam. When I reached the van my stomach hurt from too much fruit. My hands stung from constant thorn pricks and were strained dark purple. I always enjoyed those days.

What would be the apt synonym for 'ambled' ?

- (1) dispute or bargain persistently
- (2) to walk at a more leisurely pace
- (3) surround or enclose
- (4) express one's opinion in a pompous and dogmatic way

Options :

54025064325. 1

54025064326. 2

54025064327. 3

54025064328. 4

Question Number : 13 Question Id : 54025016083 Question Type : MCQ Option Shuffling : No

Is Question Mandatory : No Calculator : None Response Time : N.A Think Time : N.A

Minimum Instruction Time : 0

Correct Marks : 5 Wrong Marks : 1

Question Key Details :

Key	Value
Comprehension	Comp3

Read the following passage. Answer questions :

When I was a small child my grandparents would take me blackberry picking. It was usually late August when the blackberries had fully ripened. Grandad would drive us in his old van. Despite not being comfortable or particularly safe, Grandad's van had a character you would not find in sleek new car complete with the latest innovations and a silent engine. Being seven or eight at the time, I always enjoyed a trip as we bounced along to our destination.

My grandparents always chose the same spot. Wild blackberry bushes stretched along the roadside as far as the eye could see in the both directions. The road overlooked a small pitch and putt course. On such sunny summer days it was always full. Golfers ambled sedately from hole and the crack of metal striking ball was a constant accompaniment.

Several hours of picking berries ensured. Nana warned me not to eat any until they had all been washed but turned a knowing blind eye while I gorged anyway. I also helped myself to the occasional unripe red berry as I had a particular taste for anything bitter. The fully immature green berries proved a step too far for even my pallet and were merely unpleasant.

When at last we were finished the bright scenery had turned to lengthy shadows and the afternoon had elapsed into evening. Grandad hauled a bin bag half full of berries back to the van. Juice bled slowly onto the ground. Nana would later make apple and blackberry tarts and fill several jars with jam. When I reached the van my stomach hurt from too much fruit. My hands stung from constant thorn pricks and were strained dark purple. I always enjoyed those days.

From the following list of events and activities in the passage, choose the incorrect one :

- (1) They would pick blueberries for several hours.
- (2) The juice from the blueberries would bleed onto the ground.
- (3) It was usually late August when the blueberries fully ripened.
- (4) Grandma would drive the narrator in her old van.

Options :

54025064329. 1

54025064330. 2

54025064331. 3

54025064332. 4

Question Number : 14 Question Id : 54025016084 Question Type : MCQ Option Shuffling : No

Is Question Mandatory : No Calculator : None Response Time : N.A Think Time : N.A

Minimum Instruction Time : 0

Correct Marks : 5 Wrong Marks : 1

Question Key Details :

Key	Value
Comprehension	Comp3

Read the following passage. Answer questions :

When I was a small child my grandparents would take me blackberry picking. It was usually late August when the blackberries had fully ripened. Grandad would drive us in his old van. Despite not being comfortable or particularly safe, Grandad's van had a character you would not find in sleek new car complete with the latest innovations and a silent engine. Being seven or eight at the time, I always enjoyed a trip as we bounced along to our destination.

My grandparents always chose the same spot. Wild blackberry bushes stretched along the roadside as far as the eye could see in the both directions. The road overlooked a small pitch and putt course. On such sunny summer days it was always full. Golfers ambled sedately from hole and the crack of metal striking ball was a constant accompaniment.

Several hours of picking berries ensured. Nana warned me not to eat any until they had all been washed but turned a knowing blind eye while I gorged anyway. I also helped myself to the occasional unripe red berry as I had a particular taste for anything bitter. The fully immature green berries proved a step too far for even my pallet and were merely unpleasant.

When at last we were finished the bright scenery had turned to lengthy shadows and the afternoon had elapsed into evening. Grandad hauled a bin bag half full of berries back to the van. Juice bled slowly onto the ground. Nana would later make apple and blackberry tarts and fill several jars with jam. When I reached the van my stomach hurt from too much fruit. My hands stung from constant thorn pricks and were strained dark purple. I always enjoyed those days. What would happen to the narrator's hands at the end of the day ?

- (1) It would amble sedately.
- (2) It was swollen and stained purplish red.
- (3) It stung from constant thorn pricks.
- (4) It was broken as he fell from a blueberry tree.

Options :

54025064333. 1

54025064334. 2

54025064335. 3

54025064336. 4

Question Number : 15 Question Id : 54025016085 Question Type : MCQ Option Shuffling : No

Is Question Mandatory : No Calculator : None Response Time : N.A Think Time : N.A

Minimum Instruction Time : 0

Correct Marks : 5 Wrong Marks : 1

Question Key Details :

Key	Value
Comprehension	Comp3

Read the following passage. Answer questions :

When I was a small child my grandparents would take me blackberry picking. It was usually late August when the blackberries had fully ripened. Grandad would drive us in his old van. Despite not being comfortable or particularly safe, Grandad's van had a character you would not find in sleek new car complete with the latest innovations and a silent engine. Being seven or eight at the time, I always enjoyed a trip as we bounced along to our destination.

My grandparents always chose the same spot. Wild blackberry bushes stretched along the roadside as far as the eye could see in the both directions. The road overlooked a small pitch and putt course. On such sunny summer days it was always full. Golfers ambled sedately from hole and the crack of metal striking ball was a constant accompaniment.

Several hours of picking berries ensured. Nana warned me not to eat any until they had all been washed but turned a knowing blind eye while I gorged anyway. I also helped myself to the occasional unripe red berry as I had a particular taste for anything bitter. The fully immature green berries proved a step too far for even my pallet and were merely unpleasant.

When at last we were finished the bright scenery had turned to lengthy shadows and the afternoon had elapsed into evening. Grandad hauled a bin bag half full of berries back to the van. Juice bled slowly onto the ground. Nana would later make apple and blackberry tarts and fill several jars with jam. When I reached the van my stomach hurt from too much fruit. My hands stung from constant thorn pricks and were strained dark purple. I always enjoyed those days.

How would you describe the given passage ?

- (1) The narrator is nostalgic and missed his deceased grandparents.
- (2) The narrator has fond memories of picking blueberries with his grandparents.
- (3) The narrator hurt his hand and was fatally injured during his trip with his grandparents.
- (4) The narrator reveals details about his grandparents blueberries jam business.

Options :

54025064337. 1

54025064338. 2

54025064339. 3

54025064340. 4

Sub-Section Number :

4

Sub-Section Id :

5402501137

Question Shuffling Allowed :

Yes

Is Section Default? :

null

Question Number : 16 Question Id : 54025016086 Question Type : MCQ Option Shuffling : No

Is Question Mandatory : No Calculator : None Response Time : N.A Think Time : N.A

Minimum Instruction Time : 0

Correct Marks : 5 Wrong Marks : 1

Question Key Details :

Key	Value
Comprehension	MCQ

Read the following passage. Answer questions :

When I was a small child my grandparents would take me blackberry picking. It was usually late August when the blackberries had fully ripened. Grandad would drive us in his old van. Despite not being comfortable or particularly safe, Grandad's van had a character you would not find in sleek new car complete with the latest innovations and a silent engine. Being seven or eight at the time, I always enjoyed a trip as we bounced along to our destination.

My grandparents always chose the same spot. Wild blackberry bushes stretched along the roadside as far as the eye could see in the both directions. The road overlooked a small pitch and putt course. On such sunny summer days it was always full. Golfers ambled sedately from hole and the crack of metal striking ball was a constant accompaniment.

Several hours of picking berries ensured. Nana warned me not to eat any until they had all been washed but turned a knowing blind eye while I gorged anyway. I also helped myself to the occasional unripe red berry as I had a particular taste for anything bitter. The fully immature green berries proved a step too far for even my pallet and were merely unpleasant.

When at last we were finished the bright scenery had turned to lengthy shadows and the afternoon had elapsed into evening. Grandad hauled a bin bag half full of berries back to the van. Juice bled slowly onto the ground. Nana would later make apple and blackberry tarts and fill several jars with jam. When I reached the van my stomach hurt from too much fruit. My hands stung from constant thorn pricks and were strained dark purple. I always enjoyed those days.

Change the following sentences into active voice and choose the correct option :

The shipment will be sent by Friday.

- (1) By Friday the shipment will be sent by us.
- (2) We will send the shipment by Friday.
- (3) We will have sent the shipment by Friday.
- (4) By Friday the shipment will have been sent.

Options :

54025064341. 1

54025064342. 2

54025064343. 3

54025064344. 4

Question Number : 17 Question Id : 54025016087 Question Type : MCQ Option Shuffling : No

Is Question Mandatory : No Calculator : None Response Time : N.A Think Time : N.A

Minimum Instruction Time : 0

Correct Marks : 5 Wrong Marks : 1

Question Key Details :

Key	Value
Comprehension	MCQ

Identify the sentence written in passive voice :

- (1) someone stole my watch
- (2) we expected him to call
- (3) you are requested to complete the project
- (4) you must deliver this passage

Options :

54025064345. 1

54025064346. 2

54025064347. 3

54025064348. 4

Question Number : 18 Question Id : 54025016088 Question Type : MCQ Option Shuffling : No

Is Question Mandatory : No Calculator : None Response Time : N.A Think Time : N.A

Minimum Instruction Time : 0

Correct Marks : 5 Wrong Marks : 1

Question Key Details :

Key	Value
Comprehension	MCQ

Choose the **correct** form of reported verb when the following sentence is changed to indirect speech :

She says, "I enjoy walking".

- (1) I enjoy
- (2) I enjoyed
- (3) She enjoys
- (4) She enjoyed

Options :

54025064349. 1

54025064350. 2

54025064351. 3

54025064352. 4

Question Number : 19 Question Id : 54025016089 Question Type : MCQ Option Shuffling : No

Is Question Mandatory : No Calculator : None Response Time : N.A Think Time : N.A

Minimum Instruction Time : 0

Correct Marks : 5 Wrong Marks : 1

Question Key Details :

Key	Value
Comprehension	MCQ

Choose the **correct** form of reported speech from the options given below :

Rakesh said, "Shall I play the movie?"

- (1) Rakesh said if he could play the movie ?
- (2) Rakesh asked that he should play the movie.
- (3) Rakesh said if he should play the movie.
- (4) Rakesh asked if he should play the movie.

Options :

54025064353. 1

54025064354. 2

54025064355. 3

54025064356. 4

Question Number : 20 Question Id : 54025016090 Question Type : MCQ Option Shuffling : No

Is Question Mandatory : No Calculator : None Response Time : N.A Think Time : N.A

Minimum Instruction Time : 0

Correct Marks : 5 Wrong Marks : 1

Question Key Details :

Key	Value
Comprehension	MCQ

Re arrange the jumbled sentences into a paragraph.

- (A) With the advent of new technology, the film makers had the possibility of synchronising the sound track with action.
- (B) The movies were called talkies since the audience was able to hear the actors talk with each other.
- (C) This included Dialogues, Music and Special effects.
- (D) Films used to be silent with just action on the screen along with subtitles.
- (E) However colour movies were somewhat slow due to the processing cost.

Choose the **correct** answer from the options given below :

- (1) (A), (B), (C), (D), (E)
- (2) (D), (A), (C), (B), (E)
- (3) (C), (B), (D), (A), (B)
- (4) (B), (A),(D), (E), (C)

Options :

54025064357. 1

54025064358. 2

54025064359. 3

54025064360. 4

Question Number : 21 Question Id : 54025016091 Question Type : MCQ Option Shuffling : No

Is Question Mandatory : No Calculator : None Response Time : N.A Think Time : N.A

Minimum Instruction Time : 0

Correct Marks : 5 Wrong Marks : 1

Question Key Details :

Key	Value
Comprehension	MCQ

Rearrange the jumbled sentences into a paragraph.

- (A) Thousands of people lost their homes, lives and were displaced.
- (B) Chennai was flooded after incessant rains in November 2022 following the worst rainfall in 100 years.
- (C) The Indian Army, Navy and Air Force worked shoulder to shoulder with many NGOs.
- (D) Hectic rescue efforts were on, round the clock.
- (E) Many areas were completely submerged in water causing massive damage to life and supply.

Choose the **correct** answer from the options given below :

- (1) (A), (B), (C), (D), (E)
- (2) (E), (D), (C), (B), (A)
- (3) (B), (E), (A), (D), (C)
- (4) (E), (B), (D), (A), (C)

Options :

54025064361. 1

54025064362. 2

54025064363. 3

54025064364. 4

Question Number : 22 Question Id : 54025016092 Question Type : MCQ Option Shuffling : No

Is Question Mandatory : No Calculator : None Response Time : N.A Think Time : N.A

Minimum Instruction Time : 0

Correct Marks : 5 Wrong Marks : 1

Question Key Details :

Key	Value
Comprehension	MCQ

Match List - I with List - II. Foreign words and its meaning.

List - I

List - II

- | | |
|----------------|--------------------------------|
| (A) alias | (I) Pleasant Journey to You |
| (B) Bon Voyage | (II) First Appearance in Event |
| (C) debut | (III) not open to Public |
| (D) in camera | (IV) nick name |

Choose the **correct** answer from the options given below :

- (1) (A)-(I), (B)-(II), (C)-(III), (D)-(IV)
- (2) (A)-(II), (B)-(III), (C)-(IV), (D)-(I)
- (3) (A)-(IV), (B)-(I), (C)-(II), (D)-(III)
- (4) (A)-(III), (B)-(IV), (C)-(I), (D)-(II)

Options :

54025064365. 1

54025064366. 2

54025064367. 3

54025064368. 4

Question Number : 23 Question Id : 54025016093 Question Type : MCQ Option Shuffling : No

Is Question Mandatory : No Calculator : None Response Time : N.A Think Time : N.A

Minimum Instruction Time : 0

Correct Marks : 5 Wrong Marks : 1

Question Key Details :

Key	Value
Comprehension	MCQ

Replace the underlined words by a foreign expression. The Lok Sabha Speaker adjourned the Parliament Session for an indefinite peroid :

- (1) Sine cure
- (2) Sine qua non
- (3) Sin bin
- (4) Sine die

Options :

54025064369. 1

54025064370. 2

54025064371. 3

54025064372. 4

Question Number : 24 Question Id : 54025016094 Question Type : MCQ Option Shuffling : No

Is Question Mandatory : No Calculator : None Response Time : N.A Think Time : N.A

Minimum Instruction Time : 0

Correct Marks : 5 Wrong Marks : 1

Question Key Details :

Key	Value
Comprehension	MCQ

Find the synonym for the underlined words.

These local competitors have been eliminated. Walmart is free to raise the prices again, since it has established itself as a local Monopoly :

- (1) Two sellers
- (2) Single seller
- (3) Single person
- (4) Two persons

Options :

54025064373. 1

54025064374. 2

54025064375. 3

54025064376. 4

Question Number : 25 Question Id : 54025016095 Question Type : MCQ Option Shuffling : No

Is Question Mandatory : No Calculator : None Response Time : N.A Think Time : N.A

Minimum Instruction Time : 0

Correct Marks : 5 Wrong Marks : 1

Question Key Details :

Key	Value
Comprehension	MCQ

Match List - I with List - II Synonyms.

List - I	List - II
(A) Alien	(I) opponent
(B) Fragile	(II) stranger
(C) Foe	(III) dismantle
(D) Demolish	(IV) weak

Choose the **correct** answer from the options given below :

- (1) (A)-(I), (B)-(III), (C)-(II), (D)-(IV)
- (2) (A)-(III), (B)-(II), (C)-(IV), (D)-(I)
- (3) (A)-(II), (B)-(IV), (C)-(I), (D)-(III)
- (4) (A)-(IV), (B)-(I), (C)-(III), (D)-(II)

Options :

54025064377. 1

54025064378. 2

54025064379. 3

54025064380. 4

Question Number : 26 Question Id : 54025016096 Question Type : MCQ Option Shuffling : No

Is Question Mandatory : No Calculator : None Response Time : N.A Think Time : N.A

Minimum Instruction Time : 0

Correct Marks : 5 Wrong Marks : 1

Question Key Details :

Key	Value
Comprehension	MCQ

Fill in the blanks with suitable Articles.

Let us enter the world of _____ bold and _____ beautiful.

Choose the appropriate option :

- (1) a, a
- (2) the, The
- (3) the, a
- (4) a the

Options :

54025064381. 1

54025064382. 2

54025064383. 3

54025064384. 4

Question Number : 27 Question Id : 54025016097 Question Type : MCQ Option Shuffling : No

Is Question Mandatory : No Calculator : None Response Time : N.A Think Time : N.A

Minimum Instruction Time : 0

Correct Marks : 5 Wrong Marks : 1

Question Key Details :

Key	Value
Comprehension	MCQ

Fill in the blanks with suitable Articles.

January is _____ first month of _____ year.

Choose the appropriate option :

- (1) a, an
- (2) The, an
- (3) A, The
- (4) The The

Options :

54025064385. 1

54025064386. 2

54025064387. 3

54025064388. 4

Question Number : 28 Question Id : 54025016098 Question Type : MCQ Option Shuffling : No

Is Question Mandatory : No Calculator : None Response Time : N.A Think Time : N.A

Minimum Instruction Time : 0

Correct Marks : 5 Wrong Marks : 1

Question Key Details :

Key	Value
Comprehension	MCQ

Change the sentence given below into an Exclamatory sentence.

Man is a wonderful piece of work.

- (1) What piece of work is man !
- (2) A piece of work is man !
- (3) Man is a wonderful work !
- (4) A piece of work, oh! a man.

Options :

54025064389. 1

54025064390. 2

54025064391. 3

54025064392. 4

Question Number : 29 Question Id : 54025016099 Question Type : MCQ Option Shuffling : No

Is Question Mandatory : No Calculator : None Response Time : N.A Think Time : N.A

Minimum Instruction Time : 0

Correct Marks : 5 Wrong Marks : 1

Question Key Details :

Key	Value
Comprehension	MCQ

Change the sentence into Assertive sentence :

How beautiful is the night !

- (1) The beautiful night is today.
- (2) The night must be beautiful.
- (3) The night is not beautiful.
- (4) The night is very beautiful.

Options :

54025064393. 1

54025064394. 2

54025064395. 3

54025064396. 4

Question Number : 30 Question Id : 54025016100 Question Type : MCQ Option Shuffling : No

Is Question Mandatory : No Calculator : None Response Time : N.A Think Time : N.A

Minimum Instruction Time : 0

Correct Marks : 5 Wrong Marks : 1

Question Key Details :

Key	Value
Comprehension	MCQ

Choose the **correct** alternative from the options for the underlined words. In case your response is 'No Improvement' mark that as your answer.

Children should be taught to write by a fountain pen.

- (1) No Improvement
- (2) Through
- (3) with
- (4) from

Options :

54025064397. 1

54025064398. 2

54025064399. 3

54025064400. 4

Question Number : 31 Question Id : 54025016101 Question Type : MCQ Option Shuffling : No

Is Question Mandatory : No Calculator : None Response Time : N.A Think Time : N.A

Minimum Instruction Time : 0

Correct Marks : 5 Wrong Marks : 1

Question Key Details :

Key	Value
Comprehension	MCQ

Choose the appropriate alternative for the underlined word.

You should at least congratulate your friend for his grand success in the elections.

- (1) at
- (2) on
- (3) upon
- (4) to

Options :

54025064401. 1

54025064402. 2

54025064403. 3

54025064404. 4

Question Number : 32 Question Id : 54025016102 Question Type : MCQ Option Shuffling : No

Is Question Mandatory : No Calculator : None Response Time : N.A Think Time : N.A

Minimum Instruction Time : 0

Correct Marks : 5 Wrong Marks : 1

Question Key Details :

Key	Value
Comprehension	MCQ

Choose the correct option from the following.

Work hard lest you _____ fail.

- (1) will
- (2) should not
- (3) could
- (4) should

Options :

54025064405. 1

54025064406. 2

54025064407. 3

54025064408. 4

Question Number : 33 Question Id : 54025016103 Question Type : MCQ Option Shuffling : No

Is Question Mandatory : No Calculator : None Response Time : N.A Think Time : N.A

Minimum Instruction Time : 0

Correct Marks : 5 Wrong Marks : 1

Question Key Details :

Key	Value
Comprehension	MCQ

Fill in the blank with suitable word from the given options :

_____ I switch the air conditioner on ?

- (1) Will
- (2) Should
- (3) Must
- (4) Shall

Options :

54025064409. 1

54025064410. 2

54025064411. 3

54025064412. 4

**Question Number : 34 Question Id : 54025016104 Question Type : MCQ Option Shuffling : No
Is Question Mandatory : No Calculator : None Response Time : N.A Think Time : N.A
Minimum Instruction Time : 0**

Correct Marks : 5 Wrong Marks : 1

Question Key Details :

Key	Value
Comprehension	MCQ

From the given options, choose the **correct** way to end an informed letter.

- (1) your faithfully
- (2) yours faithfully
- (3) yours truly
- (4) yours truthfully

Options :

54025064413. 1

54025064414. 2

54025064415. 3

54025064416. 4

**Question Number : 35 Question Id : 54025016105 Question Type : MCQ Option Shuffling : No
Is Question Mandatory : No Calculator : None Response Time : N.A Think Time : N.A
Minimum Instruction Time : 0**

Correct Marks : 5 Wrong Marks : 1

Question Key Details :

Key	Value
Comprehension	MCQ

Arrange the following parts in Letter Writing in its **correct** sequence :

- (A) Date
- (B) Subject
- (C) Salutation
- (D) Sender's Address
- (E) Receiver's Address

Choose the **correct** answer from the options given below :

- (1) (A), (B), (E), (D), (C)
- (2) (B), (D), (E), (A), (C)
- (3) (D), (A), (E), (B), (C)
- (4) (C), (D), (E), (A), (B)

Options :

54025064417. 1

54025064418. 2

54025064419. 3

54025064420. 4

Question Number : 36 Question Id : 54025016106 Question Type : MCQ Option Shuffling : No

Is Question Mandatory : No Calculator : None Response Time : N.A Think Time : N.A

Minimum Instruction Time : 0

Correct Marks : 5 Wrong Marks : 1

Question Key Details :

Key	Value
Comprehension	MCQ

Spot the error in the given parts of a sentence. In case of no error, mark that option as your answer.

- (A) This girl wrote the essay
- (B) So well
- (C) that her teacher was exceedingly
- (D) pleased with it.
- (E) No error

Choose the **correct** answer from the options given below :

- (1) (C) Only
- (2) (A) and (B) Only
- (3) (E) Only
- (4) (D) Only

Options :

54025064421. 1

54025064422. 2

54025064423. 3

54025064424. 4

Question Number : 37 Question Id : 54025016107 Question Type : MCQ Option Shuffling : No

Is Question Mandatory : No Calculator : None Response Time : N.A Think Time : N.A

Minimum Instruction Time : 0

Correct Marks : 5 Wrong Marks : 1

Question Key Details :

Key	Value
Comprehension	MCQ

Spot the error in the given parts of a sentence.

In case of no error, mark that option as your answer.

- (A) Magic realism is one
- (B) of the latest
- (C) addition to good literature
- (D) published to good recent tunes
- (E) No error

Choose the **correct** answer from the options given below :

- (1) (B) Only
- (2) (C) and (D) Only
- (3) (C) Only
- (4) (E) Only

Options :

54025064425. 1

54025064426. 2

54025064427. 3

54025064428. 4

Question Number : 38 Question Id : 54025016108 Question Type : MCQ Option Shuffling : No

Is Question Mandatory : No Calculator : None Response Time : N.A Think Time : N.A

Minimum Instruction Time : 0

Correct Marks : 5 Wrong Marks : 1

Question Key Details :

Key	Value
Comprehension	MCQ

From the following options, choose the option with the **correct** use of the plural verb :

- (1) As I entered the conference hall, I hanged the conspiracy.
- (2) As I entered the conference hall, I got the hang of the conspiracy.
- (3) As I entered the conference hall, I got the conspiracy hanged.
- (4) As I entered the conference hall, I got the hang out of the conspiracy.

Options :

54025064429. 1

54025064430. 2

54025064431. 3

54025064432. 4

Question Number : 39 Question Id : 54025016109 Question Type : MCQ Option Shuffling : No

Is Question Mandatory : No Calculator : None Response Time : N.A Think Time : N.A

Minimum Instruction Time : 0

Correct Marks : 5 Wrong Marks : 1

Question Key Details :

Key	Value
Comprehension	MCQ

Match phrasal verbs in **List - I** with their meanings in **List - II** :

List - I

- (A) set about
- (B) set aside
- (C) set off
- (D) set up

List - II

- (I) allocated
- (II) to start a series of events
- (III) started doing
- (IV) established

Choose the **correct** answer from the options given below :

- (1) (A)-(III), (B)-(I), (C)-(II), (D)-(IV)
- (2) (A)-(I), (B)-(II), (C)-(III), (D)-(IV)
- (3) (A)-(IV), (B)-(I), (C)-(II), (D)-(III)
- (4) (A)-(II), (B)-(III), (C)-(I), (D)-(IV)

Options :

54025064433. 1

54025064434. 2

54025064435. 3

54025064436. 4

Question Number : 40 Question Id : 54025016110 Question Type : MCQ Option Shuffling : No

Is Question Mandatory : No Calculator : None Response Time : N.A Think Time : N.A

Minimum Instruction Time : 0

Correct Marks : 5 Wrong Marks : 1

Question Key Details :

Key	Value
Comprehension	MCQ

Fill in the blanks with the appropriate pair of homonyms :

His _____ up the cooperate ladder is weirdly attributed to his American _____.

- (1) accent, ascent
- (2) ascent, accent
- (3) ascent, extent
- (4) exend, accent

Options :

54025064437. 1

54025064438. 2

54025064439. 3

54025064440. 4

Question Number : 41 Question Id : 54025016111 Question Type : MCQ Option Shuffling : No

Is Question Mandatory : No Calculator : None Response Time : N.A Think Time : N.A

Minimum Instruction Time : 0

Correct Marks : 5 Wrong Marks : 1

Question Key Details :

Key	Value
Comprehension	MCQ

Rearrange the jumbled phrases to make a meaningful sentence :

- (A) having visited Europe
- (B) nor French
- (C) many times but he
- (D) He boasts of
- (E) can speak neither English

Choose the **correct** answer from the options given below :

- (1) (A), (C), (D), (B), (E)
- (2) (D), (A), (C), (E), (B)
- (3) (E), (B), (C), (D), (E)
- (4) (A), (D), (C), (E), (B)

Options :

54025064441. 1

54025064442. 2

54025064443. 3

54025064444. 4

Question Number : 42 Question Id : 54025016112 Question Type : MCQ Option Shuffling : No

Is Question Mandatory : No Calculator : None Response Time : N.A Think Time : N.A

Minimum Instruction Time : 0

Correct Marks : 5 Wrong Marks : 1

Question Key Details :

Key	Value
Comprehension	MCQ

Choose the appropriate Antonym of 'exalted' from the words given below :

- (1) undignified
- (2) eulogize
- (3) prime
- (4) nuisance

Options :

54025064445. 1

54025064446. 2

54025064447. 3

54025064448. 4

Question Number : 43 Question Id : 54025016113 Question Type : MCQ Option Shuffling : No

Is Question Mandatory : No Calculator : None Response Time : N.A Think Time : N.A

Minimum Instruction Time : 0

Correct Marks : 5 Wrong Marks : 1

Question Key Details :

Key	Value
Comprehension	MCQ

Choose the **correct** Synonym of the underlined word.

His puerile attitude could prove to be the biggest hurdle in his career.

- (1) Childish
- (2) Wise
- (3) Soothing
- (4) Shallow

Options :

54025064449. 1

54025064450. 2

54025064451. 3

54025064452. 4

Question Number : 44 Question Id : 54025016114 Question Type : MCQ Option Shuffling : No

Is Question Mandatory : No Calculator : None Response Time : N.A Think Time : N.A

Minimum Instruction Time : 0

Correct Marks : 5 Wrong Marks : 1

Question Key Details :

Key	Value
Comprehension	MCQ

Use an adverb of manner in the following interrogative sentence :

_____ did you continue it ?

- (1) Where
- (2) How
- (3) When
- (4) Why

Options :

54025064453. 1

54025064454. 2

54025064455. 3

54025064456. 4

Question Number : 45 Question Id : 54025016115 Question Type : MCQ Option Shuffling : No

Is Question Mandatory : No Calculator : None Response Time : N.A Think Time : N.A

Minimum Instruction Time : 0

Correct Marks : 5 Wrong Marks : 1

Question Key Details :

Key	Value
Comprehension	MCQ

Identify the type of adverb used in the following sentence :

I am much aliened to have it.

- (1) Adverb of Frequency
- (2) Adverb of Manner
- (3) Adverb of Reason
- (4) Adverb of Degree

Options :

54025064457. 1

54025064458. 2

54025064459. 3

54025064460. 4

**Question Number : 46 Question Id : 54025016116 Question Type : MCQ Option Shuffling : No
Is Question Mandatory : No Calculator : None Response Time : N.A Think Time : N.A
Minimum Instruction Time : 0**

Correct Marks : 5 Wrong Marks : 1

Question Key Details :

Key	Value
Comprehension	MCQ

Use the **correct** Question for the given sentence :

I am always on time, _____ ?

- (1) amn't I
- (2) am I
- (3) aren't I
- (4) wasn't I

Options :

- 54025064461. 1
- 54025064462. 2
- 54025064463. 3
- 54025064464. 4

**Question Number : 47 Question Id : 54025016117 Question Type : MCQ Option Shuffling : No
Is Question Mandatory : No Calculator : None Response Time : N.A Think Time : N.A
Minimum Instruction Time : 0**

Correct Marks : 5 Wrong Marks : 1

Question Key Details :

Key	Value
Comprehension	MCQ

Choose the grammatically correct form of the sentence below from the options given.

My uncle is enough rich to buy a car.

- (1) My uncle is rich enough to buy a car.
- (2) My uncle is richer enough to buy a car.
- (3) My uncle in enough richer to buy a car.
- (4) No error

Options :

54025064465. 1

54025064466. 2

54025064467. 3

54025064468. 4

Question Number : 48 Question Id : 54025016118 Question Type : MCQ Option Shuffling : No

Is Question Mandatory : No Calculator : None Response Time : N.A Think Time : N.A

Minimum Instruction Time : 0

Correct Marks : 5 Wrong Marks : 1

Question Key Details :

Key	Value
Comprehension	MCQ

Match the Idioms in the List - I to their correct meanings in List - II.

List - I

List - II

- (A) Under a cloud
- (B) Moot point
- (C) Halcyon days
- (D) Bird's eye view

- (I) Peaceful period
- (II) A concise view
- (III) In a suspicious position
- (IV) Debatable or undecided

Choose the correct answer from the options given below :

- (1) (A)-(II), (B)-(I), (C)-(IV), (D)-(III)
- (2) (A)-(III), (B)-(IV), (C)-(I), (D)-(II)
- (3) (A)-(I), (B)-(II), (C)-(III), (D)-(IV)
- (4) (A)-(IV), (B)-(III), (C)-(II), (D)-(I)

Options :

54025064469. 1

54025064470. 2

54025064471. 3

54025064472. 4

Question Number : 49 Question Id : 54025016119 Question Type : MCQ Option Shuffling : No

Is Question Mandatory : No Calculator : None Response Time : N.A Think Time : N.A

Minimum Instruction Time : 0

Correct Marks : 5 Wrong Marks : 1

Question Key Details :

Key	Value
Comprehension	MCQ

Choose the most appropriate meaning of the underlined idiom :

Most of the political parties pay lip service to the plight of the poor.

- (1) pay no attention
- (2) blame each other
- (3) pretend to regard
- (4) to pay clearly

Options :

54025064473. 1

54025064474. 2

54025064475. 3

54025064476. 4

Question Number : 50 Question Id : 54025016120 Question Type : MCQ Option Shuffling : No**Is Question Mandatory : No Calculator : None Response Time : N.A Think Time : N.A****Minimum Instruction Time : 0****Correct Marks : 5 Wrong Marks : 1****Question Key Details :**

Key	Value
Comprehension	MCQ

Identify the Adjective Clause in the following sentence :

As the years went by, her prose became more interesting and soon, she was offered a book deal.

- (1) As the years went by
- (2) her prose became more interesting
- (3) and soon, she was offered
- (4) a book deal

Options :

54025064477. 1

54025064478. 2

54025064479. 3

54025064480. 4

Biology**Group Number :** 2**Group Id :** 540250335

Group Maximum Duration :	45
Group Minimum Duration :	45
Show Attended Group? :	No
Edit Attended Group? :	No
Break time :	0
Group Marks :	200
Is this Group for Examiner? :	No
Examiner permission :	Cant View
Show Progress Bar? :	No

Biology

Section Id :	540250405
Section Number :	1
Section type :	Online
Mandatory or Optional :	Mandatory
Number of Questions :	50
Number of Questions to be attempted :	40
Section Marks :	200
Enable Mark as Answered Mark for Review and Clear Response :	Yes
Maximum Instruction Time :	0
Sub-Section Number :	1
Sub-Section Id :	5402501138
Question Shuffling Allowed :	Yes
Is Section Default? :	null

**Question Number : 51 Question Id : 54025016021 Question Type : MCQ Option Shuffling : No
Is Question Mandatory : No Calculator : None Response Time : N.A Think Time : N.A
Minimum Instruction Time : 0**

Correct Marks : 5 Wrong Marks : 1

Question Key Details :

Key	Value
Comprehension	MCQ

Cell division itself a mode of reproduction in organisms like :

- (A) Yeast
- (B) Amoeba
- (C) Paramecium
- (D) Fruitfly

Choose the **correct** answer from the options given below :

- (1) (A) Only
- (2) (B) & (D) Only
- (3) (D) Only
- (4) (A), (B) & (C) Only

Options :

54025064081. 1

54025064082. 2

54025064083. 3

54025064084. 4

Question Number : 51 Question Id : 54025016021 Question Type : MCQ Option Shuffling : No

Is Question Mandatory : No Calculator : None Response Time : N.A Think Time : N.A

Minimum Instruction Time : 0

Correct Marks : 5 Wrong Marks : 1

Question Key Details :

Key	Value
Comprehension	MCQ

कोशिका विभाजन स्वयं में जीवों की जनन प्रणाली है जैसे :

- (A) यीस्ट
- (B) अमीबा
- (C) पैरामीसियम
- (D) फ्रूटफ्लाई

निम्नलिखित में से सही उत्तर का चयन कीजिए :

- (1) केवल (A)
- (2) केवल (B) और (D)
- (3) केवल (D)
- (4) केवल (A), (B) और (C)

Options :

54025064081. 1

54025064082. 2

54025064083. 3

54025064084. 4

Question Number : 52 Question Id : 54025016022 Question Type : MCQ Option Shuffling : No

Is Question Mandatory : No Calculator : None Response Time : N.A Think Time : N.A

Minimum Instruction Time : 0

Correct Marks : 5 Wrong Marks : 1

Question Key Details :

Key	Value
Comprehension	MCQ

The vegetative propagate in Agave is called :

- (1) Leaf buds
- (2) Offset
- (3) Bulbil
- (4) Rhizome

Options :

54025064085. 1

54025064086. 2

54025064087. 3

54025064088. 4

Question Number : 52 Question Id : 54025016022 Question Type : MCQ Option Shuffling : No

Is Question Mandatory : No Calculator : None Response Time : N.A Think Time : N.A

Minimum Instruction Time : 0

Correct Marks : 5 Wrong Marks : 1

Question Key Details :

Key	Value
Comprehension	MCQ

ऐगेव में कायिक प्रवर्धन को कहते है :

- (1) पत्र कलिका
- (2) भूस्तरिका
- (3) बुलबिल
- (4) प्रकंद

Options :

54025064085. 1

54025064086. 2

54025064087. 3

54025064088. 4

Question Number : 53 Question Id : 54025016023 Question Type : MCQ Option Shuffling : No

Is Question Mandatory : No Calculator : None Response Time : N.A Think Time : N.A

Minimum Instruction Time : 0

Correct Marks : 5 Wrong Marks : 1

Question Key Details :

Key	Value
Comprehension	MCQ

In a typical angiosperm, the mature embryo sac is :

- (1) 8 nucleated, 7 celled
- (2) 7 nucleated, 8 celled
- (3) 7 nucleated, 7 celled
- (4) 8 nucleated, 8 celled

Options :

54025064089. 1

54025064090. 2

54025064091. 3

54025064092. 4

Question Number : 53 Question Id : 54025016023 Question Type : MCQ Option Shuffling : No

Is Question Mandatory : No Calculator : None Response Time : N.A Think Time : N.A

Minimum Instruction Time : 0

Correct Marks : 5 Wrong Marks : 1

Question Key Details :

Key	Value
Comprehension	MCQ

ऐंजियोस्पर्म में पक्व भ्रूण है :

- (1) 8 आकेन्द्रित, 7 कोषिय
- (2) 7 आकेन्द्रित, 8 कोषिय
- (3) 7 आकेन्द्रित, 7 कोषिय
- (4) 8 आकेन्द्रित, 8 कोषिय

Options :

54025064089. 1

54025064090. 2

54025064091. 3

54025064092. 4

Question Number : 54 Question Id : 54025016024 Question Type : MCQ Option Shuffling : No

Is Question Mandatory : No Calculator : None Response Time : N.A Think Time : N.A

Minimum Instruction Time : 0

Correct Marks : 5 Wrong Marks : 1

Question Key Details :

Key	Value
Comprehension	MCQ

Maximum number of male gametes produced from one pollen mother cell (microspore mother cell) will be :

- (1) Two
- (2) Four
- (3) Eight
- (4) Sixteen

Options :

54025064093. 1

54025064094. 2

54025064095. 3

54025064096. 4

Question Number : 54 Question Id : 54025016024 Question Type : MCQ Option Shuffling : No

Is Question Mandatory : No Calculator : None Response Time : N.A Think Time : N.A

Minimum Instruction Time : 0

Correct Marks : 5 Wrong Marks : 1

Question Key Details :

Key	Value
Comprehension	MCQ

एक लघुबीजाणु घानी मदा कोशिका से अधिकतम कितने नर युग्मक उत्पन्न होंगे :

- (1) दो
- (2) चार
- (3) आठ
- (4) सोलह

Options :

54025064093. 1

54025064094. 2

54025064095. 3

54025064096. 4

Question Number : 55 Question Id : 54025016025 Question Type : MCQ Option Shuffling : No**Is Question Mandatory : No Calculator : None Response Time : N.A Think Time : N.A****Minimum Instruction Time : 0****Correct Marks : 5 Wrong Marks : 1****Question Key Details :**

Key	Value
Comprehension	MCQ

Which of the following hormone is **not** secreted by placenta ?

- (1) Estrogens
- (2) Progestogens
- (3) Relaxin
- (4) Human chorionic gonadotropin

Options :

54025064097. 1

54025064098. 2

54025064099. 3

54025064100. 4

Question Number : 55 Question Id : 54025016025 Question Type : MCQ Option Shuffling : No**Is Question Mandatory : No Calculator : None Response Time : N.A Think Time : N.A****Minimum Instruction Time : 0****Correct Marks : 5 Wrong Marks : 1****Question Key Details :**

Key	Value
-----	-------

निम्नलिखित में है कौन सा हारमोन से सत्तावित नहीं होता है ?

- (1) ऐस्ट्रोजन
- (2) प्रोजेस्टोजन
- (3) रिलेक्सिन
- (4) मानव जरायु गोणैडोट्रोपिन

Options :

54025064097. 1

54025064098. 2

54025064099. 3

54025064100. 4

Question Number : 56 Question Id : 54025016026 Question Type : MCQ Option Shuffling : No

Is Question Mandatory : No Calculator : None Response Time : N.A Think Time : N.A

Minimum Instruction Time : 0

Correct Marks : 5 Wrong Marks : 1

Question Key Details :

Key	Value
Comprehension	MCQ

Which one of the following is **NOT** the function of Leyding cells ?

- (1) Synthesis Androgens
- (2) Secretes Androgens
- (3) Immunologically competent cells are present in it
- (4) Stimulate secretion of some factors which help in the process of Spermiogenesis

Options :

54025064101. 1

54025064102. 2

54025064103. 3

54025064104. 4

Question Number : 56 Question Id : 54025016026 Question Type : MCQ Option Shuffling : No

Is Question Mandatory : No Calculator : None Response Time : N.A Think Time : N.A

Minimum Instruction Time : 0

Correct Marks : 5 Wrong Marks : 1

Question Key Details :

Key	Value
Comprehension	MCQ

निम्नलिखित में से कौन सा हार्मोन लीडिंग कोशिका का कार्य नहीं है?

- (1) ऐन्ड्रोजन संश्लेषण
- (2) ऐन्ड्रोजन स्त्रवण
- (3) प्रतिरक्षी समर्थ कोशिकाएं उपस्थित होती हैं
- (4) कुछ उद्दीपन कारक स्त्रावक शुक्राणुजनन की प्रक्रिया में सहायक होते हैं।

Options :

54025064101. 1

54025064102. 2

54025064103. 3

54025064104. 4

Question Number : 57 Question Id : 54025016027 Question Type : MCQ Option Shuffling : No

Is Question Mandatory : No Calculator : None Response Time : N.A Think Time : N.A

Minimum Instruction Time : 0

Correct Marks : 5 Wrong Marks : 1

Question Key Details :

Key	Value
Comprehension	MCQ

Which one of the following is most widely accepted method of contraception in India ?

- (1) Vasectomy
- (2) Coitus interruptus
- (3) IUDs
- (4) Implants

Options :

54025064105. 1

54025064106. 2

54025064107. 3

54025064108. 4

Question Number : 57 Question Id : 54025016027 Question Type : MCQ Option Shuffling : No**Is Question Mandatory : No Calculator : None Response Time : N.A Think Time : N.A****Minimum Instruction Time : 0****Correct Marks : 5 Wrong Marks : 1****Question Key Details :**

Key	Value
Comprehension	MCQ

निम्नलिखित में से कौन सा गर्भनिरोधक साधन भारत में सर्वमान्य है ?

- (1) शुक्रवाहक-उच्छेदन
- (2) कोईटस अंतरायन
- (3) इंटरा यूटेराइन ट्रांसफर
- (4) अंतरोप

Options :

54025064105. 1

54025064106. 2

54025064107. 3

54025064108. 4

Question Number : 58 Question Id : 54025016028 Question Type : MCQ Option Shuffling : No**Is Question Mandatory : No Calculator : None Response Time : N.A Think Time : N.A****Minimum Instruction Time : 0****Correct Marks : 5 Wrong Marks : 1****Question Key Details :**

Key	Value
Comprehension	MCQ

Which one among the following contraceptive, inhibits ovulation and implantation of female reproductive system ?

- (1) Oral pills
- (2) Lippes loop
- (3) Condoms
- (4) Tubectomy

Options :

54025064109. 1

54025064110. 2

54025064111. 3

54025064112. 4

Question Number : 58 Question Id : 54025016028 Question Type : MCQ Option Shuffling : No

Is Question Mandatory : No Calculator : None Response Time : N.A Think Time : N.A

Minimum Instruction Time : 0

Correct Marks : 5 Wrong Marks : 1

Question Key Details :

Key	Value
Comprehension	MCQ

निम्नलिखित में से कौन सी बंध्यकरण विधि अंडजनन और मादा जनन तंत्र का रोपण करते हैं?

- (1) मुख की गोलियां
- (2) लिप्पेस लूप
- (3) निरोध
- (4) नलिका उच्छेदन

Options :

54025064109. 1

54025064110. 2

54025064111. 3

54025064112. 4

Question Number : 59 Question Id : 54025016029 Question Type : MCQ Option Shuffling : No

Is Question Mandatory : No Calculator : None Response Time : N.A Think Time : N.A

Minimum Instruction Time : 0

Correct Marks : 5 Wrong Marks : 1

Question Key Details :

Key	Value
Comprehension	MCQ

The genetic disorder caused due to presence of an additional copy of the chromosome number 21 is :

- (1) Down's syndrome
- (2) Klinefelter syndrome
- (3) Turner's syndrome
- (4) Haemophilia

Options :

54025064113. 1

54025064114. 2

54025064115. 3

54025064116. 4

Question Number : 59 Question Id : 54025016029 Question Type : MCQ Option Shuffling : No

Is Question Mandatory : No Calculator : None Response Time : N.A Think Time : N.A

Minimum Instruction Time : 0

Correct Marks : 5 Wrong Marks : 1

Question Key Details :

Key	Value
Comprehension	MCQ

वह आनुवांशिक विकार जो 21 वें गुणसूत्र को प्रतिलिपि के कारण होता है :

- (1) डाउन सिंड्रोम
- (2) क्लाइन फ़ैल्टर सिंड्रोम
- (3) टर्नर सिंड्रोम
- (4) हीमोफीलिया

Options :

54025064113. 1

54025064114. 2

54025064115. 3

54025064116. 4

Question Number : 60 Question Id : 54025016030 Question Type : MCQ Option Shuffling : No

Is Question Mandatory : No Calculator : None Response Time : N.A Think Time : N.A

Minimum Instruction Time : 0

Correct Marks : 5 Wrong Marks : 1

Question Key Details :

Key	Value
Comprehension	MCQ

In a garden pea, the axial flower is dominant to terminal flower. What will be the percentage of offsprings with terminal flowers, when two heterozygous plants are crossed ?

- (1) 25%
- (2) 50%
- (3) 75%
- (4) 0%

Options :

54025064117. 1

54025064118. 2

54025064119. 3

54025064120. 4

Question Number : 60 Question Id : 54025016030 Question Type : MCQ Option Shuffling : No

Is Question Mandatory : No Calculator : None Response Time : N.A Think Time : N.A

Minimum Instruction Time : 0

Correct Marks : 5 Wrong Marks : 1

Question Key Details :

Key	Value
Comprehension	MCQ

एक मटर के बांग में, अक्षीय पुष्प, अंतिम पुष्प से अधिक प्रभावी है। अंतिम पुष्प बांली संतति का क्या प्रतिशत होगा, यदि दो विषम युग्मजी पौधों को क्रॉस किया गया है?

- (1) 25%
- (2) 50%
- (3) 75%
- (4) 0%

Options :

54025064117. 1

54025064118. 2

54025064119. 3

54025064120. 4

Question Number : 61 Question Id : 54025016031 Question Type : MCQ Option Shuffling : No

Is Question Mandatory : No Calculator : None Response Time : N.A Think Time : N.A

Minimum Instruction Time : 0

Correct Marks : 5 Wrong Marks : 1

Question Key Details :

Key	Value
Comprehension	MCQ

A classical example of mutation arise due to change in a single base pair of DNA is :

- (1) Sickle cell anaemia
- (2) Thalassemia
- (3) Colour blindness
- (4) Cystic fibrosis

Options :

54025064121. 1

54025064122. 2

54025064123. 3

54025064124. 4

Question Number : 61 Question Id : 54025016031 Question Type : MCQ Option Shuffling : No**Is Question Mandatory : No Calculator : None Response Time : N.A Think Time : N.A****Minimum Instruction Time : 0****Correct Marks : 5 Wrong Marks : 1****Question Key Details :**

Key	Value
Comprehension	MCQ

एवं चिर प्रतिष्ठित उत्परिवर्तन का उदाहरण डी.एन.ए के एक क्षारीय यग्म के कारण है?

- (1) दात्र कोशिका अरक्तता
- (2) थैलासीमिया
- (3) वर्णाधता
- (4) सिस्टिक फाइब्रोसिस

Options :

54025064121. 1

54025064122. 2

54025064123. 3

54025064124. 4

Question Number : 62 Question Id : 54025016032 Question Type : MCQ Option Shuffling : No**Is Question Mandatory : No Calculator : None Response Time : N.A Think Time : N.A****Minimum Instruction Time : 0****Correct Marks : 5 Wrong Marks : 1****Question Key Details :**

Key	Value
Comprehension	MCQ

The steps of DNA fingerprinting are given below. Arrange them in a correct sequence.

- (A) Separation of DNA fragments by electrophoresis
- (B) Hybridisation using labelled VNTR probe
- (C) Isolation and digestion of DNA
- (D) Detection of hybridised DNA fragments by autoradiography
- (E) Transferring of separated DNA fragments to synthetic membranes

Choose the **correct** answer from the options given below :

- (1) (C), (B), (A), (E), (D)
- (2) (A), (C), (D), (B), (E)
- (3) (C), (A), (E), (B), (D)
- (4) (B), (E), (D), (A), (C)

Options :

54025064125. 1

54025064126. 2

54025064127. 3

54025064128. 4

Question Number : 62 Question Id : 54025016032 Question Type : MCQ Option Shuffling : No

Is Question Mandatory : No Calculator : None Response Time : N.A Think Time : N.A

Minimum Instruction Time : 0

Correct Marks : 5 Wrong Marks : 1

Question Key Details :

Key	Value
Comprehension	MCQ

निम्नलिखित पदों में डी एन ए अगुलिछापी पूर्ण होती है। सही आरोही क्रम में व्यवस्थित कीजिए।

- (A) इलेक्ट्रोफोरेसिस द्वारा डी.एन.ए. खंडों का पृथाक्करण
- (B) चिन्हित वी.एन.टी.आर प्रोब का उपयोग करते हुए संकरण
- (C) डी.एन.ए. का विलगन और पाचन
- (D) स्वविकिरणी चित्रण द्वारा संकरित डी.एन.ए. खंडों का पता लगाना
- (E) पृथक्करण, डी.एन.ए. खंडों का संश्लेषित झिल्ली द्वारा

निम्नलिखित विकल्पों में से सही उत्तर का चयन कीजिए :

- (1) (A), (B), (A), (E), (D)
- (2) (A), (C), (D), (B), (E)
- (3) (C), (A), (E), (B), (D)
- (4) (B), (E), (D), (A), (C)

Options :

54025064125. 1

54025064126. 2

54025064127. 3

54025064128. 4

Question Number : 63 Question Id : 54025016033 Question Type : MCQ Option Shuffling : No

Is Question Mandatory : No Calculator : None Response Time : N.A Think Time : N.A

Minimum Instruction Time : 0

Correct Marks : 5 Wrong Marks : 1

Question Key Details :

Key	Value
Comprehension	MCQ

Match List - I with List - II.

List - I

List - II

- | | |
|------------------------|---------------------------|
| (A) RNA Polymerase II | (I) 28 srRNA |
| (B) RNA Polymerase I | (II) hn RNA |
| (C) Ribosome | (III) 5 srRNA |
| (D) RNA Polymerase III | (IV) 23 srRNA in bacteria |

Choose the **correct** answer from the options given below :

- (1) (A)-(III), (B)-(II), (C)-(I), (D)-(IV)
- (2) (A)-(II), (B)-(IV), (C)-(III), (D)-(I)
- (3) (A)-(II), (B)-(I), (C)-(IV), (D)-(III)
- (4) (A)-(IV), (B)-(III), (C)-(II), (D)-(I)

Options :

54025064129. 1

54025064130. 2

54025064131. 3

54025064132. 4

Question Number : 63 Question Id : 54025016033 Question Type : MCQ Option Shuffling : No

Is Question Mandatory : No Calculator : None Response Time : N.A Think Time : N.A

Minimum Instruction Time : 0

Correct Marks : 5 Wrong Marks : 1

Question Key Details :

Key	Value
Comprehension	MCQ

सूची - I का सूची - II से मिलान करें।

सूची - I

सूची - II

- | | |
|----------------------|--------------------------|
| (A) RNA पॉलीमरेज II | (I) 28 srRNA |
| (B) RNA पॉलीमरेज I | (II) hn RNA |
| (C) राइबोजाइम | (III) 5 srRNA |
| (D) RNA पॉलीमरेज III | (IV) 23 srRNA जीवाणु में |

निम्नलिखित विकल्पों में से सही उत्तर का चयन कीजिए :

- (1) (A)-(III), (B)-(II), (C)-(I), (D)-(IV)
- (2) (A)-(II), (B)-(IV), (C)-(III), (D)-(I)
- (3) (A)-(II), (B)-(I), (C)-(IV), (D)-(III)
- (4) (A)-(IV), (B)-(III), (C)-(II), (D)-(I)

Options :

54025064129. 1

54025064130. 2

54025064131. 3

54025064132. 4

Question Number : 64 Question Id : 54025016034 Question Type : MCQ Option Shuffling : No

Is Question Mandatory : No Calculator : None Response Time : N.A Think Time : N.A

Minimum Instruction Time : 0

Correct Marks : 5 Wrong Marks : 1

Question Key Details :

Key	Value
Comprehension	MCQ

The size of VNTR varies from :

- (1) 0.1 to 20 kb
- (2) 0.2 to 10 bp
- (3) 0.1 to 10 kb
- (4) 0.2 to 20 kb

Options :

54025064133. 1

54025064134. 2

54025064135. 3

54025064136. 4

Question Number : 64 Question Id : 54025016034 Question Type : MCQ Option Shuffling : No**Is Question Mandatory : No Calculator : None Response Time : N.A Think Time : N.A****Minimum Instruction Time : 0****Correct Marks : 5 Wrong Marks : 1****Question Key Details :**

Key	Value
Comprehension	MCQ

VNTR का आकार परिवर्तित होता है :

(1) 0.1 से 20 kb

(2) 0.2 से 10 bp

(3) 0.1 से 10 kb

(4) 0.2 से 20 kb

Options :

54025064133. 1

54025064134. 2

54025064135. 3

54025064136. 4

Question Number : 65 Question Id : 54025016035 Question Type : MCQ Option Shuffling : No**Is Question Mandatory : No Calculator : None Response Time : N.A Think Time : N.A****Minimum Instruction Time : 0****Correct Marks : 5 Wrong Marks : 1****Question Key Details :**

Key	Value
Comprehension	MCQ

Brain capacities of *Homo erectus* was around :

- (1) 900 cc
- (2) 650 - 800 cc
- (3) 1400 cc
- (4) 650 cc

Options :

54025064137. 1

54025064138. 2

54025064139. 3

54025064140. 4

Question Number : 65 Question Id : 54025016035 Question Type : MCQ Option Shuffling : No

Is Question Mandatory : No Calculator : None Response Time : N.A Think Time : N.A

Minimum Instruction Time : 0

Correct Marks : 5 Wrong Marks : 1

Question Key Details :

Key	Value
Comprehension	MCQ

होमो इरिक्टस का मस्तिष्क अनुमानित था :

- (1) 900 cc
- (2) 650 - 800 cc
- (3) 1400 cc
- (4) 650 cc

Options :

54025064137. 1

54025064138. 2

54025064139. 3

54025064140. 4

**Question Number : 66 Question Id : 54025016036 Question Type : MCQ Option Shuffling : No
Is Question Mandatory : No Calculator : None Response Time : N.A Think Time : N.A
Minimum Instruction Time : 0**

Correct Marks : 5 Wrong Marks : 1

Question Key Details :

Key	Value
Comprehension	MCQ

In Miller's experiment, the closed flask contained :

- (1) C_2H_6 , H_2 , N_2O and NH_3
- (2) CH_4 , H_2 , NH_3 and H_2O
- (3) CH_4 , O_2 , NO_2 and H_2O
- (4) CO_2 , H_2O , NH_3 and O_2

Options :

54025064141. 1

54025064142. 2

54025064143. 3

54025064144. 4

**Question Number : 66 Question Id : 54025016036 Question Type : MCQ Option Shuffling : No
Is Question Mandatory : No Calculator : None Response Time : N.A Think Time : N.A
Minimum Instruction Time : 0**

Correct Marks : 5 Wrong Marks : 1

Question Key Details :

Key	Value
Comprehension	MCQ

मिलर परीक्षण में बंद फ्लास्क में है :

- (1) C_2H_6 , H_2 , N_2O और NH_3
- (2) CH_4 , H_2 , NH_3 और H_2O
- (3) CH_4 , O_2 , NO_2 और H_2O
- (4) CO_2 , H_2O , NH_3 और O_2

Options :

54025064141. 1

54025064142. 2

54025064143. 3

54025064144. 4

Question Number : 67 Question Id : 54025016037 Question Type : MCQ Option Shuffling : No

Is Question Mandatory : No Calculator : None Response Time : N.A Think Time : N.A

Minimum Instruction Time : 0

Correct Marks : 5 Wrong Marks : 1

Question Key Details :

Key	Value
Comprehension	MCQ

Select the factor which does not affect Hardy-Weinberg Equilibrium ?

- (1) Genetic drift
- (2) Mutation
- (3) Genetic recombination
- (4) Random mating

Options :

54025064145. 1

54025064146. 2

54025064147. 3

54025064148. 4

Question Number : 67 Question Id : 54025016037 Question Type : MCQ Option Shuffling : No

Is Question Mandatory : No Calculator : None Response Time : N.A Think Time : N.A

Minimum Instruction Time : 0

Correct Marks : 5 Wrong Marks : 1

Question Key Details :

Key	Value
Comprehension	MCQ

उस घटक का चयन कीजिए जिससे हार्डी विनबर्ग साम्यावस्था प्रभावित नहीं होती :

- (1) अनुवांशिक अपवाह
- (2) उत्परिवर्तन
- (3) अनुवांशिक पुनः संयोजन
- (4) अनियमित मैथुन

Options :

54025064145. 1

54025064146. 2

54025064147. 3

54025064148. 4

Question Number : 68 Question Id : 54025016038 Question Type : MCQ Option Shuffling : No

Is Question Mandatory : No Calculator : None Response Time : N.A Think Time : N.A

Minimum Instruction Time : 0

Correct Marks : 5 Wrong Marks : 1

Question Key Details :

Key	Value
Comprehension	MCQ

Match List - I with List - II.

List - I

Disease

- (A) Pneumonia
- (B) Typhoid
- (C) Malaria
- (D) Filariasis

List - II

Pathogen

- (I) *Salmonella typhi*
- (II) *Plasmodium falciparum*
- (III) *Wuchereria bancrofti*
- (IV) *Haemophilus influenzae*

Choose the **correct** answer from the options given below :

- (1) (A)-(I), (B)-(IV), (C)-(III), (D)-(II)
- (2) (A)-(IV), (B)-(I), (C)-(II), (D)-(III)
- (3) (A)-(IV), (B)-(III), (C)-(I), (D)-(II)
- (4) (A)-(III), (B)-(I), (C)-(IV), (D)-(II)

Options :

54025064149. 1

54025064150. 2

54025064151. 3

54025064152. 4

Question Number : 68 Question Id : 54025016038 Question Type : MCQ Option Shuffling : No

Is Question Mandatory : No Calculator : None Response Time : N.A Think Time : N.A

Minimum Instruction Time : 0

Correct Marks : 5 Wrong Marks : 1

Question Key Details :

Key	Value
Comprehension	MCQ

सूची - I का सूची - II से मिलान करें।

सूची - I

रोग

सूची - II

प्याथोजन

- | | |
|-----------------|-----------------------------|
| (A) न्युमोनिया | (I) साल्मानेला टायफि |
| (B) टायफॉइड | (II) प्लाज्मोडियम फैलिसपेरम |
| (C) मलेरिया | (III) वुकेरिया बेन्क्रोफिट |
| (D) फाईलेरियसिस | (IV) हिमोफिलस इंप्लूँजी |

निम्नलिखित विकल्पों में से सही उत्तर का चयन कीजिए :

- (1) (A)-(I), (B)-(IV), (C)-(III), (D)-(II)
- (2) (A)-(IV), (B)-(I), (C)-(II), (D)-(III)
- (3) (A)-(IV), (B)-(III), (C)-(I), (D)-(II)
- (4) (A)-(III), (B)-(I), (C)-(IV), (D)-(II)

Options :

54025064149. 1

54025064150. 2

54025064151. 3

54025064152. 4

Question Number : 69 Question Id : 54025016039 Question Type : MCQ Option Shuffling : No

Is Question Mandatory : No Calculator : None Response Time : N.A Think Time : N.A

Minimum Instruction Time : 0

Correct Marks : 5 Wrong Marks : 1

Question Key Details :

Key	Value
Comprehension	MCQ

The symptoms of Elephantiasis :

- (A) Inflammation of lower limb
- (B) Scaly lesions on scalp
- (C) Anaemia and blockage of intestinal passage
- (D) Gross deformities of genital organs

Choose the **correct** answer from the options given below :

- (1) (A) Only
- (2) (B) and (C) Only
- (3) (C) and (D) Only
- (4) (A) and (D) Only

Options :

54025064153. 1

54025064154. 2

54025064155. 3

54025064156. 4

Question Number : 69 Question Id : 54025016039 Question Type : MCQ Option Shuffling : No

Is Question Mandatory : No Calculator : None Response Time : N.A Think Time : N.A

Minimum Instruction Time : 0

Correct Marks : 5 Wrong Marks : 1

Question Key Details :

Key	Value
Comprehension	MCQ

हस्तिपाद रोग के लक्षण :

- (A) नीचे के अंग में सूजन
- (B) शिरोवल्क पर शल्की विक्षतियां
- (C) अरक्तता और आंत्र मार्ग का आवरुद्ध होना
- (D) जननांगों का पूर्णतियां विकृत होना

निम्नलिखित विकल्पों में से सही उत्तर का चयन कीजिए :

- (1) केवल (A)
- (2) केवल (B) और (C)
- (3) केवल (C) और (D)
- (4) केवल (A) और (D)

Options :

54025064153. 1

54025064154. 2

54025064155. 3

54025064156. 4

Question Number : 70 Question Id : 54025016040 Question Type : MCQ Option Shuffling : No

Is Question Mandatory : No Calculator : None Response Time : N.A Think Time : N.A

Minimum Instruction Time : 0

Correct Marks : 5 Wrong Marks : 1

Question Key Details :

Key	Value
Comprehension	MCQ

Antibody molecule is made up of four peptide chain called as light and heavy chain are joined together by :

- (1) Peptide bond
- (2) Phospho diester bond
- (3) Glycosidic bond
- (4) Disulfide bond

Options :

54025064157. 1

54025064158. 2

54025064159. 3

54025064160. 4

Question Number : 70 Question Id : 54025016040 Question Type : MCQ Option Shuffling : No**Is Question Mandatory : No Calculator : None Response Time : N.A Think Time : N.A****Minimum Instruction Time : 0****Correct Marks : 5 Wrong Marks : 1****Question Key Details :**

Key	Value
Comprehension	MCQ

प्रतिरक्षियों के अणु चार पेप्टाइड श्रृंखलाओं से मिलाकर बने हैं जो हल्के हैं आपस में मिलकर भारी श्रृंखला बनाते हैं :

- (1) पेप्टाइड बंध
- (2) फॉस्फोडॉयस्टर बंध
- (3) ग्लायकोसिडिक बंध
- (4) डाईसल्फाइड बंध

Options :

54025064157. 1

54025064158. 2

54025064159. 3

54025064160. 4

Question Number : 71 Question Id : 54025016041 Question Type : MCQ Option Shuffling : No**Is Question Mandatory : No Calculator : None Response Time : N.A Think Time : N.A****Minimum Instruction Time : 0****Correct Marks : 5 Wrong Marks : 1****Question Key Details :**

Key	Value
Comprehension	MCQ

Match List - I with List - II.

List - I	List - II
(A) Wheat	(I) Pusa shubhra
(B) Cauliflower	(II) Himgiri
(C) Cowpea	(III) Pusa sadabahar
(D) Chilli	(IV) Pusa komal

Choose the **correct** answer from the options given below :

- (1) (A)-(I), (B)-(III), (C)-(II), (D)-(IV)
- (2) (A)-(II), (B)-(III), (C)-(IV), (D)-(I)
- (3) (A)-(III), (B)-(IV), (C)-(II), (D)-(I)
- (4) (A)-(II), (B)-(I), (C)-(IV), (D)-(III)

Options :

54025064161. 1

54025064162. 2

54025064163. 3

54025064164. 4

Question Number : 71 Question Id : 54025016041 Question Type : MCQ Option Shuffling : No

Is Question Mandatory : No Calculator : None Response Time : N.A Think Time : N.A

Minimum Instruction Time : 0

Correct Marks : 5 Wrong Marks : 1

Question Key Details :

Key	Value
Comprehension	MCQ

सूची - I का सूची - II से मिलान करें।

सूची - I

सूची - II

- | | |
|------------|--------------------|
| (A) गेहू | (I) पूसा शुभ्रा |
| (B) गोभी | (II) हिमगिरि |
| (C) लोबिया | (III) पूसा सदाबहार |
| (D) मिर्च | (IV) पूसा कोमल |

निम्नलिखित विकल्पों में से सही उत्तर का चयन कीजिए :

- (1) (A)-(I), (B)-(III), (C)-(II), (D)-(IV)
- (2) (A)-(II), (B)-(III), (C)-(IV), (D)-(I)
- (3) (A)-(III), (B)-(IV), (C)-(II), (D)-(I)
- (4) (A)-(II), (B)-(I), (C)-(IV), (D)-(III)

Options :

54025064161. 1

54025064162. 2

54025064163. 3

54025064164. 4

Question Number : 72 Question Id : 54025016042 Question Type : MCQ Option Shuffling : No

Is Question Mandatory : No Calculator : None Response Time : N.A Think Time : N.A

Minimum Instruction Time : 0

Correct Marks : 5 Wrong Marks : 1

Question Key Details :

Key	Value
Comprehension	MCQ

Which of the following is a wheat variety having high protein content ?

- (1) Sonalika
- (2) Atlas-66
- (3) Jaya
- (4) Ratna

Options :

54025064165. 1

54025064166. 2

54025064167. 3

54025064168. 4

Question Number : 72 Question Id : 54025016042 Question Type : MCQ Option Shuffling : No**Is Question Mandatory : No Calculator : None Response Time : N.A Think Time : N.A****Minimum Instruction Time : 0****Correct Marks : 5 Wrong Marks : 1****Question Key Details :**

Key	Value
Comprehension	MCQ

निम्नलिखित में से कौन सी गेहूँ की प्रजाती में प्रोटीन प्रचुर मात्रा में है?

- (1) सोनालिका
- (2) ऐटलस-66
- (3) जया
- (4) रत्ना

Options :

54025064165. 1

54025064166. 2

54025064167. 3

54025064168. 4

Question Number : 73 Question Id : 54025016043 Question Type : MCQ Option Shuffling : No**Is Question Mandatory : No Calculator : None Response Time : N.A Think Time : N.A****Minimum Instruction Time : 0****Correct Marks : 5 Wrong Marks : 1****Question Key Details :**

Key	Value
Comprehension	MCQ

In mung bean, resistance to yellow mosaic virus and powdery mildew were induced by :

- (1) Hybridisation
- (2) Recombination
- (3) Micropropagation
- (4) Mutation

Options :

54025064169. 1

54025064170. 2

54025064171. 3

54025064172. 4

Question Number : 73 Question Id : 54025016043 Question Type : MCQ Option Shuffling : No

Is Question Mandatory : No Calculator : None Response Time : N.A Think Time : N.A

Minimum Instruction Time : 0

Correct Marks : 5 Wrong Marks : 1

Question Key Details :

Key	Value
Comprehension	MCQ

मूंग बीन को, पीत मोजेईक विषाणु तथा पाउडरी मिल्ड्यू से प्रतिरोधी बनाने के लिए प्रेरित किया जाता है :

- (1) संकरीकरण
- (2) पुनर्संयोजन
- (3) सक्षमप्रवर्धन
- (4) उत्परिवर्तन

Options :

54025064169. 1

54025064170. 2

54025064171. 3

54025064172. 4

Question Number : 74 Question Id : 54025016044 Question Type : MCQ Option Shuffling : No
Is Question Mandatory : No Calculator : None Response Time : N.A Think Time : N.A
Minimum Instruction Time : 0

Correct Marks : 5 Wrong Marks : 1

Question Key Details :

Key	Value
Comprehension	MCQ

Match List - I with List - II.

List - I

- (A) *Aspergillus niger*
- (B) *Trichoderma polysporum*
- (C) *Lactobacillus*
- (D) *Saccharomyces cerevisiae*

List - II

- (I) Cyclosporin - A
- (II) Ethanol
- (III) Citric acid
- (IV) Lactic acid

Choose the **correct** answer from the options given below :

- (1) (A)-(III), (B)-(II), (C)-(I), (D)-(IV)
- (2) (A)-(I), (B)-(II), (C)-(IV), (D)-(III)
- (3) (A)-(I), (B)-(IV), (C)-(II), (D)-(III)
- (4) (A)-(III), (B)-(I), (C)-(IV), (D)-(II)

Options :

54025064173. 1

54025064174. 2

54025064175. 3

54025064176. 4

Question Number : 74 Question Id : 54025016044 Question Type : MCQ Option Shuffling : No
Is Question Mandatory : No Calculator : None Response Time : N.A Think Time : N.A
Minimum Instruction Time : 0

Correct Marks : 5 Wrong Marks : 1

Question Key Details :

Key	Value
-----	-------

सूची - I का सूची - II से मिलान करें।

सूची - I

सूची - II

(A) एस्पेरजिलस निजर

(I) साइक्लोस्पोरिन - A

(B) ट्राइफोडर्मा पॉलीस्पोरम

(II) ऐथेनॉल

(C) लैक्टोबेसिलस

(III) सिट्रिक अम्ल

(D) सैकरोमाइसीज सरविसी

(IV) लैक्टिक अम्ल

निम्नलिखित विकल्पों में से सही उत्तर का चयन कीजिए :

(1) (A)-(III), (B)-(II), (C)-(I), (D)-(IV)

(2) (A)-(I), (B)-(II), (C)-(IV), (D)-(III)

(3) (A)-(I), (B)-(IV), (C)-(II), (D)-(III)

(4) (A)-(III), (B)-(I), (C)-(IV), (D)-(II)

Options :

54025064173. 1

54025064174. 2

54025064175. 3

54025064176. 4

Question Number : 75 Question Id : 54025016045 Question Type : MCQ Option Shuffling : No

Is Question Mandatory : No Calculator : None Response Time : N.A Think Time : N.A

Minimum Instruction Time : 0

Correct Marks : 5 Wrong Marks : 1

Question Key Details :

Key	Value
Comprehension	MCQ

Which of the following acts as bio fertilizer in paddy field ?

- (1) *Nostoc*
- (2) *Rhizobium*
- (3) *Azospirillum*
- (4) *Azotobacter*

Options :

54025064177. 1

54025064178. 2

54025064179. 3

54025064180. 4

Question Number : 75 Question Id : 54025016045 Question Type : MCQ Option Shuffling : No

Is Question Mandatory : No Calculator : None Response Time : N.A Think Time : N.A

Minimum Instruction Time : 0

Correct Marks : 5 Wrong Marks : 1

Question Key Details :

Key	Value
Comprehension	MCQ

निम्नलिखित विकल्पों में से एक धान की खेती में जैव खाद का कार्य करते हैं?

- (1) नाॅस्टाक
- (2) राईजोबियम
- (3) ऐजोस्परिलम
- (4) ऐजोटोबैक्टर

Options :

54025064177. 1

54025064178. 2

54025064179. 3

54025064180. 4

Question Number : 76 Question Id : 54025016046 Question Type : MCQ Option Shuffling : No

Is Question Mandatory : No Calculator : None Response Time : N.A Think Time : N.A

Minimum Instruction Time : 0

Correct Marks : 5 Wrong Marks : 1

Question Key Details :

Key	Value
Comprehension	MCQ

The puffed-up appearance of dough is due to the production of :

- (1) Carbon dioxide gas
- (2) Alcohol
- (3) Acetic acid
- (4) Oxygen gas

Options :

54025064181. 1

54025064182. 2

54025064183. 3

54025064184. 4

Question Number : 76 Question Id : 54025016046 Question Type : MCQ Option Shuffling : No

Is Question Mandatory : No Calculator : None Response Time : N.A Think Time : N.A

Minimum Instruction Time : 0

Correct Marks : 5 Wrong Marks : 1

Question Key Details :

Key	Value
Comprehension	MCQ

गुदाहुआ आटा, एक के उत्पादन के कारण फूलाउभरा प्रतित होता है ?

- (1) कार्बन डाई ऑक्साईड गैस
- (2) ऐल्कोहल
- (3) ऐसिटिक अम्ल
- (4) ऑक्सीजन गैस

Options :

54025064181. 1

54025064182. 2

54025064183. 3

54025064184. 4

Question Number : 77 Question Id : 54025016047 Question Type : MCQ Option Shuffling : No

Is Question Mandatory : No Calculator : None Response Time : N.A Think Time : N.A

Minimum Instruction Time : 0

Correct Marks : 5 Wrong Marks : 1

Question Key Details :

Key	Value
Comprehension	MCQ

Arrange the following steps of gel electrophoresis in correct sequence :

- (A) Staining the DNA with ethidium bromide
- (B) Movement of DNA fragments towards anode under an electric field through agarose
- (C) Exposure to UV radiation
- (D) Separation of DNA fragments according to their size

Choose the **correct** answer from the options given below :

- (1) (B), (D), (A), (C)
- (2) (C), (A), (D), (B)
- (3) (B), (A), (C), (D)
- (4) (A), (D), (B), (C)

Options :

54025064185. 1

54025064186. 2

54025064187. 3

54025064188. 4

Question Number : 77 Question Id : 54025016047 Question Type : MCQ Option Shuffling : No

Is Question Mandatory : No Calculator : None Response Time : N.A Think Time : N.A

Minimum Instruction Time : 0

Correct Marks : 5 Wrong Marks : 1

Question Key Details :

Key	Value
Comprehension	MCQ

जैल इलेक्ट्रोफोरेसिस के निम्नलिखित पदों को सही क्रमबद्ध करें :

- (A) DNA को ऐथीडियम ब्रोमाइड से अमिरजित करना
- (B) DNA सूत्र का ऐग्रोज की उपस्थिति में विद्युतक्षेत्र में ऐनोड की ओर गमन
- (C) पराबैंगनी विकिरण से सम्पर्क
- (D) डी.एन.ए. गुण सूत्रका उसके आकार के अनुसार प्रथक्करण

निम्नलिखित विकल्पों में से सही उत्तर का चयन कीजिए :

- (1) (B), (D), (A), (C)
- (2) (C), (A), (D), (B)
- (3) (B), (A), (C), (D)
- (4) (A), (D), (B), (C)

Options :

54025064185. 1

54025064186. 2

54025064187. 3

54025064188. 4

Question Number : 78 Question Id : 54025016048 Question Type : MCQ Option Shuffling : No

Is Question Mandatory : No Calculator : None Response Time : N.A Think Time : N.A

Minimum Instruction Time : 0

Correct Marks : 5 Wrong Marks : 1

Question Key Details :

Key	Value
Comprehension	MCQ

If a scientist wants to recover many copies of the target DNA through recombinant DNA technology, what augmentation need to be done in cloning vector ?

- (1) Reduce cloning sites
- (2) add origin of reparation (ori) that support high copy number
- (3) add more selectable maker
- (4) add more cloning sites

Options :

54025064189. 1

54025064190. 2

54025064191. 3

54025064192. 4

Question Number : 78 Question Id : 54025016048 Question Type : MCQ Option Shuffling : No

Is Question Mandatory : No Calculator : None Response Time : N.A Think Time : N.A

Minimum Instruction Time : 0

Correct Marks : 5 Wrong Marks : 1

Question Key Details :

Key	Value
Comprehension	MCQ

एक वैज्ञानिक DNA को केन्द्र में रखकर पुनर्योजन डी.एन.ए. तकनीक द्वारा अनेक प्रतिलिपिया प्राप्त करना चाहता है, उसे क्लोनिंग के लिए क्या संवर्धन करना चाहिए :

- (1) क्लोनिंग स्तल में कमी
- (2) अधिक प्रतिलिपि करने वाली रिपेरेशन (ओरी) को जोड़ना चाहिए।
- (3) अधिक वरणात्मक बनाना चाहिए
- (4) अधिक क्लोनिंग स्थलों को जोड़ना चाहिए

Options :

54025064189. 1

54025064190. 2

54025064191. 3

54025064192. 4

**Question Number : 79 Question Id : 54025016049 Question Type : MCQ Option Shuffling : No
Is Question Mandatory : No Calculator : None Response Time : N.A Think Time : N.A
Minimum Instruction Time : 0**

Correct Marks : 5 Wrong Marks : 1

Question Key Details :

Key	Value
Comprehension	MCQ

The cell wall of a bacteria can be removed by treated it with enzyme :

- (1) Lysozyme
- (2) Cellulase
- (3) Chitinase
- (4) Pectinase

Options :

54025064193. 1

54025064194. 2

54025064195. 3

54025064196. 4

**Question Number : 79 Question Id : 54025016049 Question Type : MCQ Option Shuffling : No
Is Question Mandatory : No Calculator : None Response Time : N.A Think Time : N.A
Minimum Instruction Time : 0**

Correct Marks : 5 Wrong Marks : 1

Question Key Details :

Key	Value
Comprehension	MCQ

जीवाणु की कोशिका भित्ति को एंजाइम की अभिक्रिया से निकाला जा सकता है :

- (1) लाईसोजाइम
- (2) सैलूलोज
- (3) कार्टिनेज
- (4) पेक्टिनेज

Options :

54025064193. 1

54025064194. 2

54025064195. 3

54025064196. 4

Question Number : 80 Question Id : 54025016050 Question Type : MCQ Option Shuffling : No

Is Question Mandatory : No Calculator : None Response Time : N.A Think Time : N.A

Minimum Instruction Time : 0

Correct Marks : 5 Wrong Marks : 1

Question Key Details :

Key	Value
Comprehension	MCQ

The gene encoding resistance to which antibiotic are considered useful selectable marker for *E. coli*.

- (A) ampicillin
- (B) tetracycline
- (C) kanamycin
- (D) penicillin
- (E) chloramphenicol

Choose the **correct** answer from the options given below :

- (1) (A) and (D) only
- (2) (B) and (C) only
- (3) (C) and (D) only
- (4) (A), (B), (C) and (E) only

Options :

54025064197. 1

54025064198. 2

54025064199. 3

54025064200. 4

Question Number : 80 Question Id : 54025016050 Question Type : MCQ Option Shuffling : No**Is Question Mandatory : No Calculator : None Response Time : N.A Think Time : N.A****Minimum Instruction Time : 0****Correct Marks : 5 Wrong Marks : 1****Question Key Details :**

Key	Value
Comprehension	MCQ

विशेष E. coli की जीन कोडिंग के, प्रतिरोध के लिए किस प्रतिजैवी का उपयोग उचित है :

- (A) ऐम्पिसिलिन
- (B) टेट्रासाइक्लिन
- (C) केनामायसिन
- (D) पेनिसिलिन
- (E) क्लोरामफेनिकॉल

निम्नलिखित विकल्पों में से सही उत्तर का चयन कीजिए :

- (1) केवल (A) केवल (D)
- (2) केवल (B) केवल (C)
- (3) केवल (C) केवल (D)
- (4) केवल (A), (B), (C) केवल (E)

Options :

54025064197. 1

54025064198. 2

54025064199. 3

54025064200. 4

Question Number : 81 Question Id : 54025016051 Question Type : MCQ Option Shuffling : No

Is Question Mandatory : No Calculator : None Response Time : N.A Think Time : N.A

Minimum Instruction Time : 0

Correct Marks : 5 Wrong Marks : 1

Question Key Details :

Key	Value
Comprehension	MCQ

Toxin of *Bacillus thurengiensis* is activated in insect by :

- (1) Alkaline pH of gut
- (2) Acidic pH of gut
- (3) High temperature
- (4) Mechanical action of gut

Options :

54025064201. 1

54025064202. 2

54025064203. 3

54025064204. 4

Question Number : 81 Question Id : 54025016051 Question Type : MCQ Option Shuffling : No

Is Question Mandatory : No Calculator : None Response Time : N.A Think Time : N.A

Minimum Instruction Time : 0

Correct Marks : 5 Wrong Marks : 1

Question Key Details :

Key	Value
Comprehension	MCQ

बेसिलस थुरेंजेसिस का आविबालु किस कीट द्वारा सक्रिया होता है?

- (1) आहारनलीके क्षारीय pH मान पर
- (2) आहारनली के आम्लीय pH मान पर
- (3) अधिक तापक्रम पर
- (4) आहार नली की यांत्रिक क्रियापर

Options :

54025064201. 1

54025064202. 2

54025064203. 3

54025064204. 4

Question Number : 82 Question Id : 54025016052 Question Type : MCQ Option Shuffling : No

Is Question Mandatory : No Calculator : None Response Time : N.A Think Time : N.A

Minimum Instruction Time : 0

Correct Marks : 5 Wrong Marks : 1

Question Key Details :

Key	Value
Comprehension	MCQ

In RNAi genes are silenced by :

- (1) ss RNA
- (2) ss DNA
- (3) ds RNA
- (4) ds DNA

Options :

54025064205. 1

54025064206. 2

54025064207. 3

54025064208. 4

Question Number : 82 Question Id : 54025016052 Question Type : MCQ Option Shuffling : No

Is Question Mandatory : No Calculator : None Response Time : N.A Think Time : N.A

Minimum Instruction Time : 0

Correct Marks : 5 Wrong Marks : 1

Question Key Details :

Key	Value
Comprehension	MCQ

RNAi जीन को मौन किया जाता है :

- (1) ss RNA द्वारा
- (2) ss DNA द्वारा
- (3) ds RNA द्वारा
- (4) ds DNA द्वारा

Options :

54025064205. 1

54025064206. 2

54025064207. 3

54025064208. 4

Question Number : 83 Question Id : 54025016053 Question Type : MCQ Option Shuffling : No

Is Question Mandatory : No Calculator : None Response Time : N.A Think Time : N.A

Minimum Instruction Time : 0

Correct Marks : 5 Wrong Marks : 1

Question Key Details :

Key	Value
Comprehension	MCQ

Match List - I with List - II.

List - I

- (A) Cuckoo lays egg in crow's nest
- (B) Orchid grows in mango tree
- (C) Ticks live on skin of dogs
- (D) Species of Wasp and fig species

List - II

- (I) Commensalism
- (II) Parasitism
- (III) Mutualism
- (IV) Brood parasitism

Choose the **correct** answer from the options given below :

- (1) (A)-(I), (B)-(IV), (C)-(II), (D)-(III)
- (2) (A)-(IV), (B)-(I), (C)-(II), (D)-(III)
- (3) (A)-(IV), (B)-(I), (C)-(III), (D)-(II)
- (4) (A)-(I), (B)-(II), (C)-(III), (D)-(IV)

Options :

54025064209. 1

54025064210. 2

54025064211. 3

54025064212. 4

Question Number : 83 Question Id : 54025016053 Question Type : MCQ Option Shuffling : No

Is Question Mandatory : No Calculator : None Response Time : N.A Think Time : N.A

Minimum Instruction Time : 0

Correct Marks : 5 Wrong Marks : 1

Question Key Details :

Key	Value
Comprehension	MCQ

सारणी - I का सारणी - II से मिलान करें।

सारणी - I

- (A) कोयल अपने अंडे कौआ के घोंसले में देती है
- (B) ऑर्किड आम के पेड़ पर उगता है
- (C) कुटे की कुत्ता की त्वचा में रहता है
- (D) बर से अंजीर के पुष्प में परागण होता है

सारणी - II

- (I) सहभोजता
- (II) परजीविता
- (III) सहोपकारिता
- (IV) अंड परजीविता

निम्नलिखित विकल्पों में से **सही** उत्तर का चयन कीजिए :

- (1) (A)-(I), (B)-(IV), (C)-(II), (D)-(III)
- (2) (A)-(IV), (B)-(I), (C)-(II), (D)-(III)
- (3) (A)-(IV), (B)-(I), (C)-(III), (D)-(II)
- (4) (A)-(I), (B)-(II), (C)-(III), (D)-(IV)

Options :

54025064209. 1

54025064210. 2

54025064211. 3

54025064212. 4

Question Number : 84 Question Id : 54025016054 Question Type : MCQ Option Shuffling : No

Is Question Mandatory : No Calculator : None Response Time : N.A Think Time : N.A

Minimum Instruction Time : 0

Correct Marks : 5 Wrong Marks : 1

Question Key Details :

Key	Value
Comprehension	MCQ

Verhulst pearl logistic population growth is represented by the equation :

$$(1) \frac{dt}{dN} = rN \left(\frac{K - N}{K} \right)$$

$$(2) \frac{dN}{dt} = rN \left(\frac{K}{K - N} \right)$$

$$(3) \frac{dN}{dt} = rN \left(\frac{K - N}{K} \right)$$

$$(4) \frac{dt}{dN} = rN \left(\frac{K}{K - N} \right)$$

Options :

54025064213. 1

54025064214. 2

54025064215. 3

54025064216. 4

Question Number : 84 Question Id : 54025016054 Question Type : MCQ Option Shuffling : No

Is Question Mandatory : No Calculator : None Response Time : N.A Think Time : N.A

Minimum Instruction Time : 0

Correct Marks : 5 Wrong Marks : 1

Question Key Details :

Key	Value
Comprehension	MCQ

वेरहुस्ट-पलर्न तार्किक जनसंख्या वृद्धि, समीकरण द्वारा प्रदर्शित की जाती है :

$$(1) \quad \frac{dt}{dN} = rN \left(\frac{K - N}{K} \right)$$

$$(2) \quad \frac{dN}{dt} = rN \left(\frac{K}{K - N} \right)$$

$$(3) \quad \frac{dN}{dt} = rN \left(\frac{K - N}{K} \right)$$

$$(4) \quad \frac{dt}{dN} = rN \left(\frac{K}{K - N} \right)$$

Options :

54025064213. 1

54025064214. 2

54025064215. 3

54025064216. 4

Question Number : 85 Question Id : 54025016055 Question Type : MCQ Option Shuffling : No

Is Question Mandatory : No Calculator : None Response Time : N.A Think Time : N.A

Minimum Instruction Time : 0

Correct Marks : 5 Wrong Marks : 1

Question Key Details :

Key	Value
Comprehension	MCQ

The rate of decomposition is slower if :

- (1) Availability of large amount of oxygen
- (2) Warm and moist environment
- (3) The detritus is rich in nitrogen and sugars
- (4) The detritus is rich is lignin and chitin

Options :

54025064217. 1

54025064218. 2

54025064219. 3

54025064220. 4

Question Number : 85 Question Id : 54025016055 Question Type : MCQ Option Shuffling : No

Is Question Mandatory : No Calculator : None Response Time : N.A Think Time : N.A

Minimum Instruction Time : 0

Correct Marks : 5 Wrong Marks : 1

Question Key Details :

Key	Value
Comprehension	MCQ

विघटन की गति घीमी हो जाती है यदि :

- (1) अधिक मात्रा में ऑक्सीजन की उपलब्धता हो
- (2) गर्म तथा नमीयुक्त वातावरण हो
- (3) अपरद, नाइट्रोजन तथा अर्करायुक्त प्रचुर मात्रा में हो
- (4) अपरद, में लिग्निन तथा कार्बोनिटिन प्रचुर मात्रा में हो

Options :

54025064217. 1

54025064218. 2

54025064219. 3

54025064220. 4

Question Number : 86 Question Id : 54025016056 Question Type : MCQ Option Shuffling : No

Is Question Mandatory : No Calculator : None Response Time : N.A Think Time : N.A

Minimum Instruction Time : 0

Correct Marks : 5 Wrong Marks : 1

Question Key Details :

Key	Value
Comprehension	MCQ

An example of inverted ecological pyramid is :

- (1) Pyramid of energy of forest
- (2) Pyramid of energy of grassland
- (3) Pyramid of biomass of sea
- (4) Pyramid of number in a grassland

Options :

54025064221. 1

54025064222. 2

54025064223. 3

54025064224. 4

Question Number : 86 Question Id : 54025016056 Question Type : MCQ Option Shuffling : No

Is Question Mandatory : No Calculator : None Response Time : N.A Think Time : N.A

Minimum Instruction Time : 0

Correct Marks : 5 Wrong Marks : 1

Question Key Details :

Key	Value
Comprehension	MCQ

उल्टे पारिस्थितिक पिरामिड का उदाहरण है :

- (1) वन की ऊर्जा वाला पिरामिड
- (2) घास के मैदान की ऊर्जा वाला पिरामिड
- (3) समुद्र के जैव मास की ऊर्जा वाला पिरामिड
- (4) घास के मैदान वाली ऊर्जा वाला पिरामिड

Options :

54025064221. 1

54025064222. 2

54025064223. 3

54025064224. 4

Question Number : 87 Question Id : 54025016057 Question Type : MCQ Option Shuffling : No

Is Question Mandatory : No Calculator : None Response Time : N.A Think Time : N.A

Minimum Instruction Time : 0

Correct Marks : 5 Wrong Marks : 1

Question Key Details :

Key	Value
Comprehension	MCQ

Who popularised the term 'Biodiversity' that intends to describe the combined diversity at all the levels of biological organisation ?

- (1) Devid Harvery
- (2) Sengar and Nicolson
- (3) Edward Wilson
- (4) Edward Jenar

Options :

54025064225. 1

54025064226. 2

54025064227. 3

54025064228. 4

Question Number : 87 Question Id : 54025016057 Question Type : MCQ Option Shuffling : No

Is Question Mandatory : No Calculator : None Response Time : N.A Think Time : N.A

Minimum Instruction Time : 0

Correct Marks : 5 Wrong Marks : 1

Question Key Details :

Key	Value
Comprehension	MCQ

जिसने जैव विविधता के पद को व्यापक किया, उसकी प्रवृत्ति संयुक्त विविधता को संयुक्त रूप से जैविक संगठन स्तर तक व्यापक करने की थी, वह :

- (1) डेविड हार्वे
- (2) सेंगार और निकोलसन
- (3) ऐडवर्ड विल्सन
- (4) ऐडवर्ड जैनर

Options :

54025064225. 1

54025064226. 2

54025064227. 3

54025064228. 4

Question Number : 88 Question Id : 54025016058 Question Type : MCQ Option Shuffling : No

Is Question Mandatory : No Calculator : None Response Time : N.A Think Time : N.A

Minimum Instruction Time : 0

Correct Marks : 5 Wrong Marks : 1

Question Key Details :

Key	Value
Comprehension	MCQ

Which of the following is **not** an In situ conservation approach ?

- (1) Biosphere reserves
- (2) National parks
- (3) Cryopreservation
- (4) Sacred groves

Options :

54025064229. 1

54025064230. 2

54025064231. 3

54025064232. 4

Question Number : 88 Question Id : 54025016058 Question Type : MCQ Option Shuffling : No

Is Question Mandatory : No Calculator : None Response Time : N.A Think Time : N.A

Minimum Instruction Time : 0

Correct Marks : 5 Wrong Marks : 1

Question Key Details :

Key	Value
Comprehension	MCQ

निम्नलिखित में कौन सा संरक्षण उपगमन एक स्वस्थान नहीं है ?

- (1) जैविक क्षेत्र
- (2) राष्ट्रीय उद्यान
- (3) निम्न तापीय संरक्षण
- (4) पवित्र उपवन

Options :

54025064229. 1

54025064230. 2

54025064231. 3

54025064232. 4

Question Number : 89 Question Id : 54025016059 Question Type : MCQ Option Shuffling : No

Is Question Mandatory : No Calculator : None Response Time : N.A Think Time : N.A

Minimum Instruction Time : 0

Correct Marks : 5 Wrong Marks : 1

Question Key Details :

Key	Value
Comprehension	MCQ

In the following which plant is also called 'Terror of Bengal' ?

- (1) *Parthenium*
- (2) *Eichhornia*
- (3) *Lantana*
- (4) *Vallisneria*

Options :

54025064233. 1

54025064234. 2

54025064235. 3

54025064236. 4

Question Number : 89 Question Id : 54025016059 Question Type : MCQ Option Shuffling : No**Is Question Mandatory : No Calculator : None Response Time : N.A Think Time : N.A****Minimum Instruction Time : 0****Correct Marks : 5 Wrong Marks : 1****Question Key Details :**

Key	Value
Comprehension	MCQ

निम्नलिखित में से कौन सा पादप, बंगाल का आतंक है?

- (1) पार्थीनियम
- (2) ईकोर्निया
- (3) लैन्टाना
- (4) वैलिसनेरिया

Options :

54025064233. 1

54025064234. 2

54025064235. 3

54025064236. 4

Question Number : 90 Question Id : 54025016060 Question Type : MCQ Option Shuffling : No**Is Question Mandatory : No Calculator : None Response Time : N.A Think Time : N.A****Minimum Instruction Time : 0****Correct Marks : 5 Wrong Marks : 1****Question Key Details :**

Key	Value
Comprehension	MCQ

Scrubber technology used in automobile to remove mainly which harmful gas from the exhaust with the help of water spray or lime :

- (1) Sulphur dioxide
- (2) Selenium dioxide
- (3) Phosphorus penta oxide
- (4) Carbon dioxide

Options :

54025064237. 1

54025064238. 2

54025064239. 3

54025064240. 4

Question Number : 90 Question Id : 54025016060 Question Type : MCQ Option Shuffling : No

Is Question Mandatory : No Calculator : None Response Time : N.A Think Time : N.A

Minimum Instruction Time : 0

Correct Marks : 5 Wrong Marks : 1

Question Key Details :

Key	Value
Comprehension	MCQ

स्क्रबर तकनीक को स्वचालित वाहनों में विशेष रूप से हानिकारक गैसों को निष्कासित करने के लिए जल की फुहार या बौछार की जाती है :

- (1) सल्फर डाई ऑक्साइड
- (2) सेलीनियम डाई ऑक्साइड
- (3) फॉस्फोरस पेन्टा ऑक्साइड
- (4) कार्बन डाई ऑक्साइड

Options :

54025064237. 1

54025064238. 2

54025064239. 3

54025064240. 4

Sub-Section Number : 2
Sub-Section Id : 5402501139
Question Shuffling Allowed : No
Is Section Default? : null

Question Number : 91 Question Id : 54025016061 Question Type : MCQ Option Shuffling : No

Is Question Mandatory : No Calculator : None Response Time : N.A Think Time : N.A

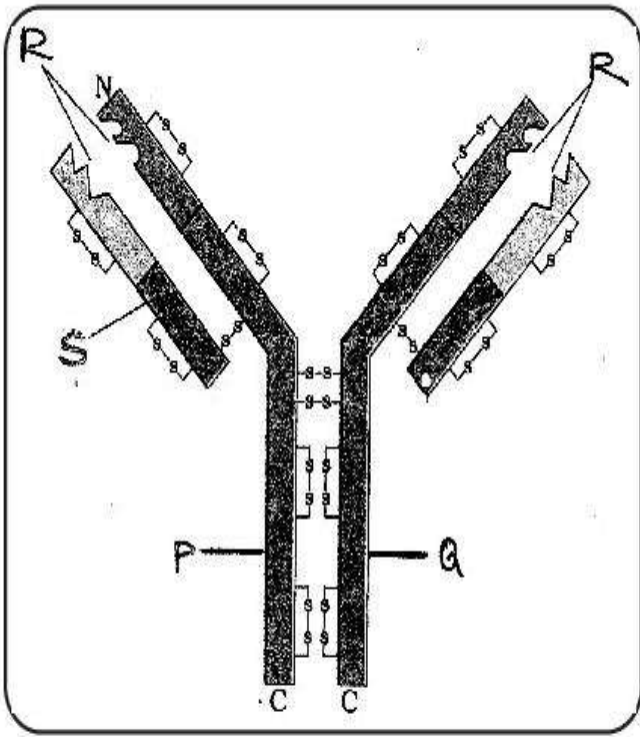
Minimum Instruction Time : 0

Correct Marks : 5 Wrong Marks : 1

Question Key Details :

Key	Value
Comprehension	Comp1

Observe the diagram and answer the following question.



Which among the following cell produce the molecule shown in figure ?

- (1) Active body cell
- (2) T - lymphocytes
- (3) B - lymphocytes
- (4) Both B and T lymphocytes

Options :

54025064241. 1

54025064242. 2

54025064243. 3

54025064244. 4

Question Number : 91 Question Id : 54025016061 Question Type : MCQ Option Shuffling : No

Is Question Mandatory : No Calculator : None Response Time : N.A Think Time : N.A

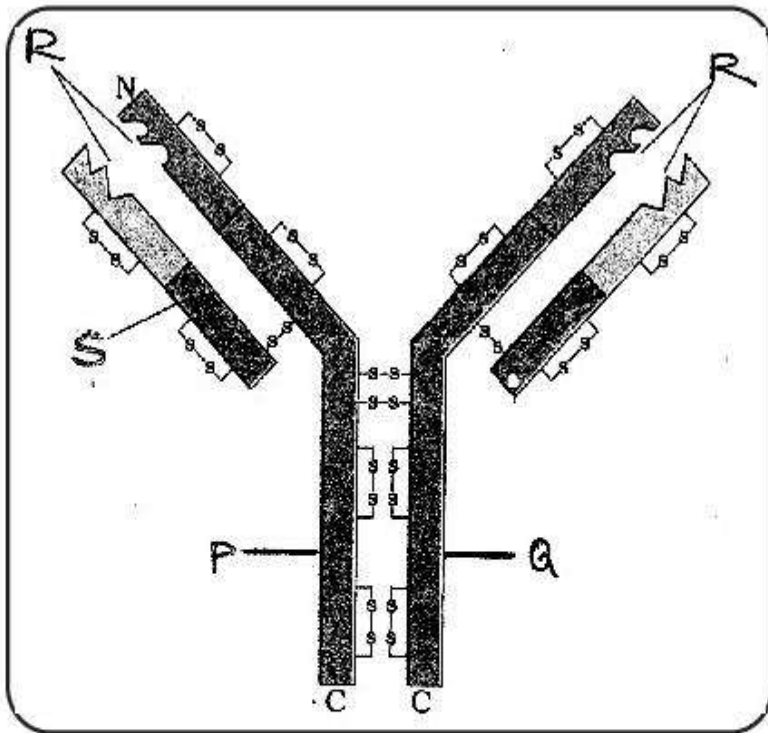
Minimum Instruction Time : 0

Correct Marks : 5 Wrong Marks : 1

Question Key Details :

Key	Value
Comprehension	Comp1

Observe the diagram and answer the following question.



The parts 'P' and 'Q' of the molecule are held by.

- (1) Covalent bonds
- (2) Ionic bonds
- (3) Phospho diester bonds
- (4) Disulphide bonds

Options :

54025064245. 1

54025064246. 2

54025064247. 3

54025064248. 4

Question Number : 92 Question Id : 54025016062 Question Type : MCQ Option Shuffling : No

Is Question Mandatory : No Calculator : None Response Time : N.A Think Time : N.A

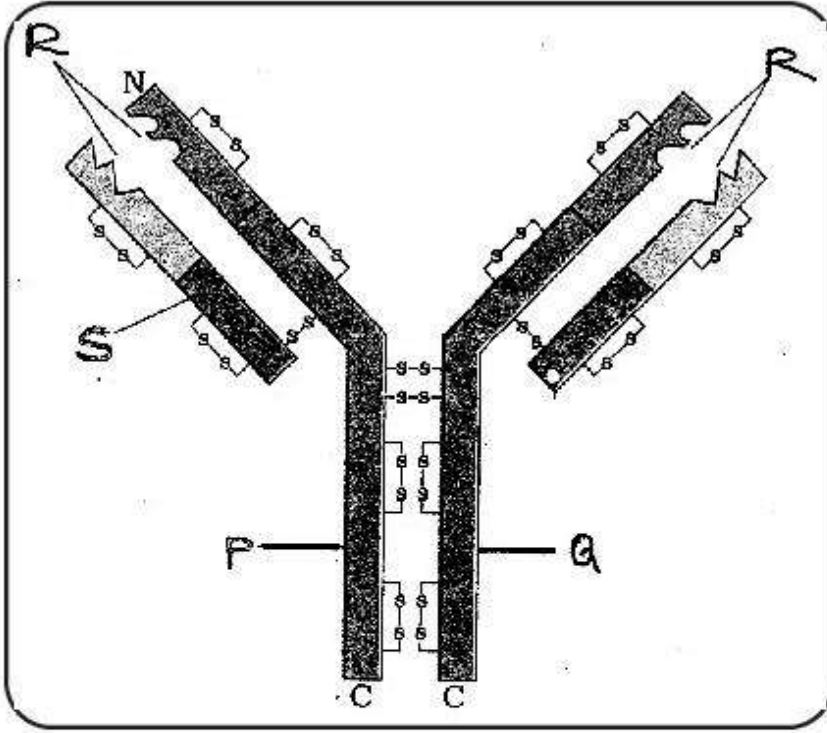
Minimum Instruction Time : 0

Correct Marks : 5 Wrong Marks : 1

Question Key Details :

Key	Value
-----	-------

आरेख का अवलोकन करके निम्नलिखित प्रश्न का उत्तर दीजिए।



'P' और 'Q' बंधे होते हैं :

- (1) सहसंयोजक बंध द्वारा
- (2) आयनिक बंध द्वारा
- (3) फॉस्फो डायस्टर बंध द्वारा
- (4) डाई सल्फाइड बंध द्वारा

Options :

54025064245. 1

54025064246. 2

54025064247. 3

54025064248. 4

Question Number : 93 Question Id : 54025016063 Question Type : MCQ Option Shuffling : No

Is Question Mandatory : No Calculator : None Response Time : N.A Think Time : N.A

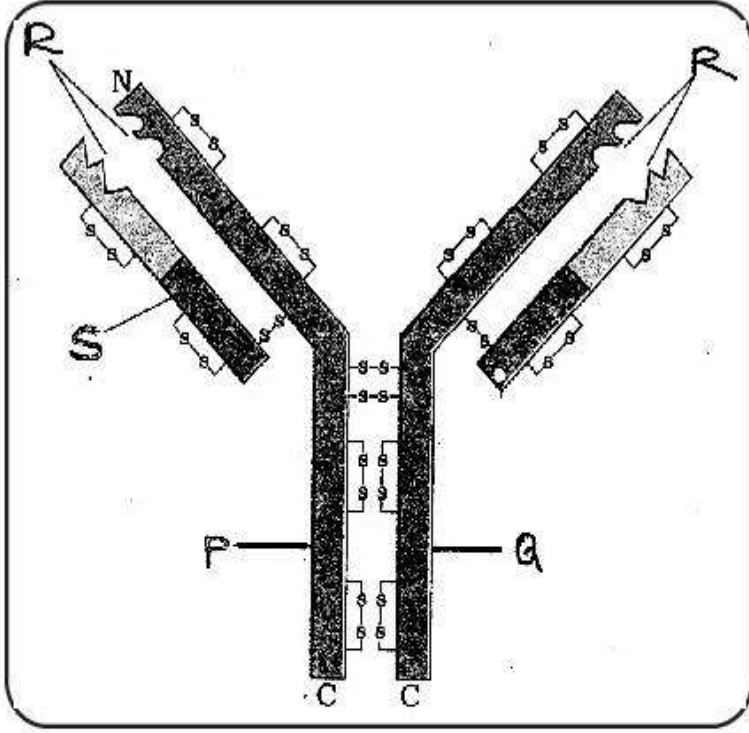
Minimum Instruction Time : 0

Correct Marks : 5 Wrong Marks : 1

Question Key Details :

Key	Value
Comprehension	Comp1

आरेख का अवलोकन करके निम्नलिखित प्रश्न का उत्तर दीजिए।



कौन सी कोशिकाएं दिये गये आरेख के अणुओं की मदद/ऊद्दीपित करती हैं?

- (1) B - कोशिकाएं
- (2) T - कोशिकाएं
- (3) न्यूट्रोफिल कोशिकाएं
- (4) महाभक्षी कोशिकाएं

Options :

54025064249. 1

54025064250. 2

54025064251. 3

54025064252. 4

Question Number : 94 Question Id : 54025016064 Question Type : MCQ Option Shuffling : No

Is Question Mandatory : No Calculator : None Response Time : N.A Think Time : N.A

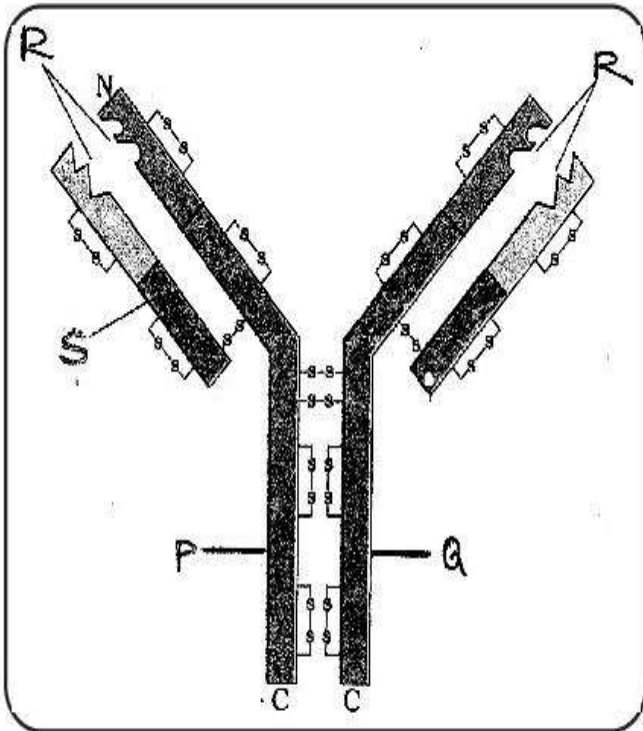
Minimum Instruction Time : 0

Correct Marks : 5 Wrong Marks : 1

Question Key Details :

Key	Value
Comprehension	Comp1

Observe the diagram and answer the following question.



The type of immunity provided by the molecule shown in the diagram :

- (1) Humoral
- (2) Cell mediated
- (3) Innate immunity
- (4) Both humoral and cell mediated

Options :

54025064253. 1

54025064254. 2

54025064255. 3

54025064256. 4

Question Number : 94 Question Id : 54025016064 Question Type : MCQ Option Shuffling : No

Is Question Mandatory : No Calculator : None Response Time : N.A Think Time : N.A

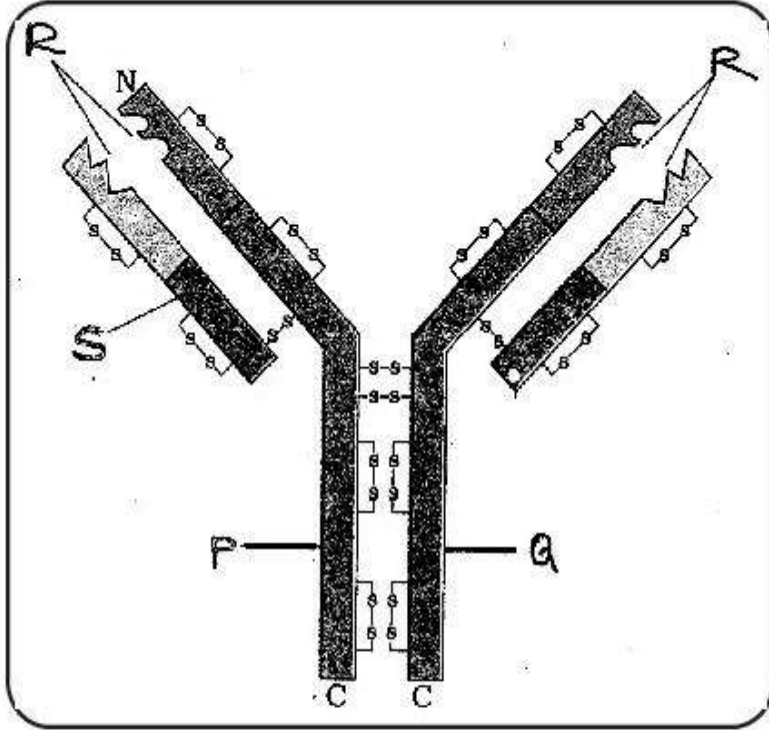
Minimum Instruction Time : 0

Correct Marks : 5 Wrong Marks : 1

Question Key Details :

Key	Value
Comprehension	Comp1

आरेख का अवलोकन करके निम्नलिखित प्रश्न का उत्तर दीजिए।



आरेख में दिये गये के अनुसार अणु किस प्रकार की प्रतिरक्षा प्रदान करते हैं ?

- (1) माध्यत
- (2) कोशिका के मध्य
- (3) सहज प्रतिरक्षा
- (4) दोनों कोशिका के मध्य तथा माध्यत

Options :

54025064253. 1

54025064254. 2

54025064255. 3

54025064256. 4

Question Number : 95 Question Id : 54025016065 Question Type : MCQ Option Shuffling : No

Is Question Mandatory : No Calculator : None Response Time : N.A Think Time : N.A

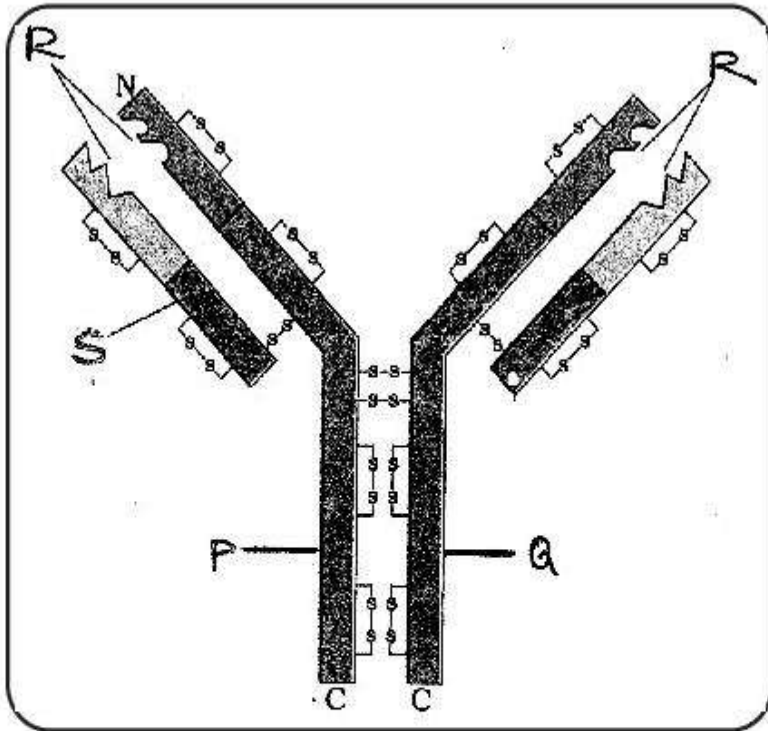
Minimum Instruction Time : 0

Correct Marks : 5 Wrong Marks : 1

Question Key Details :

Key	Value
Comprehension	Comp1

Observe the diagram and answer the following question.



What is indicated 'R' in the diagram ?

- (1) Light chain
- (2) Antigen binding site
- (3) Heavy chain
- (4) Disulphide bond

Options :

54025064257. 1

54025064258. 2

54025064259. 3

54025064260. 4

Question Number : 95 Question Id : 54025016065 Question Type : MCQ Option Shuffling : No

Is Question Mandatory : No Calculator : None Response Time : N.A Think Time : N.A

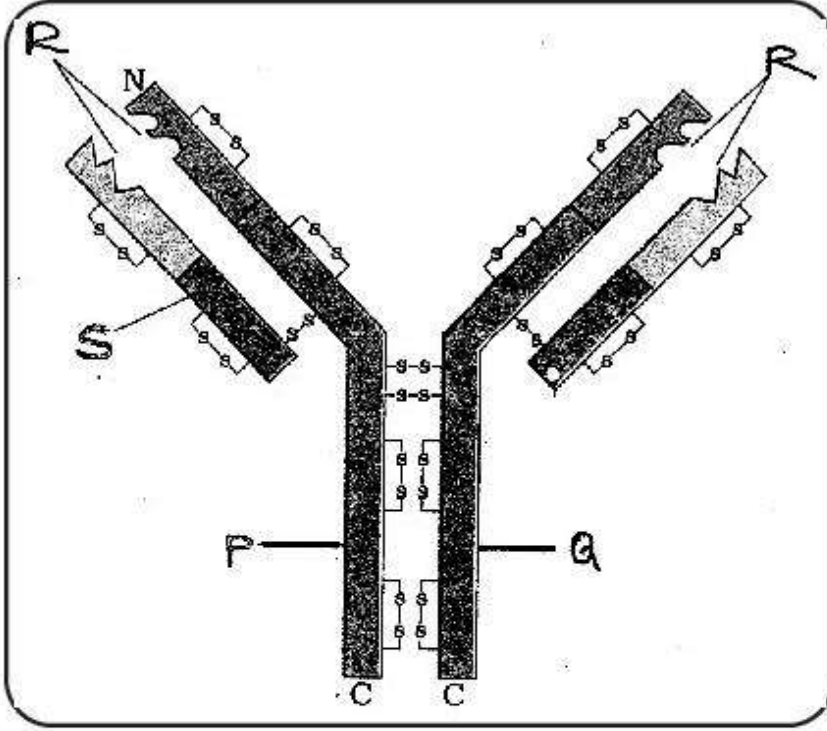
Minimum Instruction Time : 0

Correct Marks : 5 Wrong Marks : 1

Question Key Details :

Key	Value
Comprehension	Comp1

आरेख का अवलोकन करके निम्नलिखित प्रश्न का उत्तर दीजिए।



आरेख में 'R' किस को इंगित करता है?

- (1) लघु श्रृंखला
- (2) प्रतिजन बंधक स्थान
- (3) दीर्घ श्रृंखला
- (4) डाई सल्फाइड बंध

Options :

54025064257. 1

54025064258. 2

54025064259. 3

54025064260. 4

Sub-Section Number :

3

Sub-Section Id :

5402501140

Question Shuffling Allowed :

No

Is Section Default? :

null

Question Number : 96 Question Id : 54025016066 Question Type : MCQ Option Shuffling : No

Is Question Mandatory : No Calculator : None Response Time : N.A Think Time : N.A

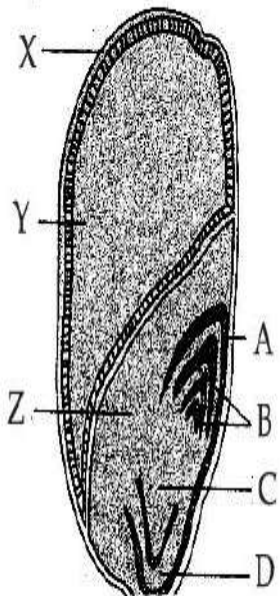
Minimum Instruction Time : 0

Correct Marks : 5 Wrong Marks : 1

Question Key Details :

Key	Value
Comprehension	Comp2

The following diagram shows an endospermic seed of Maize grain. Answer the following question :



'X' developed from which part of angiospermic plant ?

- (1) Ovary cell
- (2) Zygote
- (3) Sepals
- (4) Petals

Options :

54025064261. 1

54025064262. 2

54025064263. 3

54025064264. 4

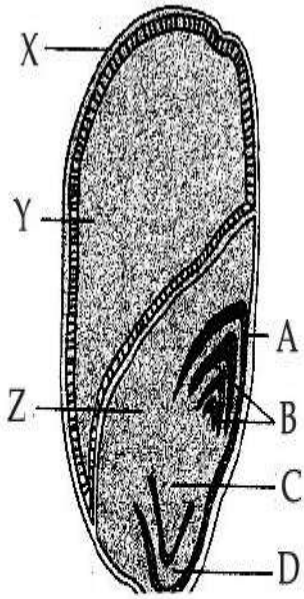
Question Number : 96 Question Id : 54025016066 Question Type : MCQ Option Shuffling : No
Is Question Mandatory : No Calculator : None Response Time : N.A Think Time : N.A
Minimum Instruction Time : 0

Correct Marks : 5 Wrong Marks : 1

Question Key Details :

Key	Value
Comprehension	Comp2

निम्नलिखित आरेख में मक्का के दाने का भ्रूणपोष दर्शाया गया है। निम्नलिखित प्रश्न का उत्तर दीजिए :



'X' एंजियोस्पर्मिक पादपों के किस भाग से उत्पन्न होता है?

- (1) फल भित्ति
- (2) भ्रूण
- (3) परिदल
- (4) दल

Options :

54025064261. 1

54025064262. 2

54025064263. 3

54025064264. 4

Question Number : 97 Question Id : 54025016067 Question Type : MCQ Option Shuffling : No

Is Question Mandatory : No Calculator : None Response Time : N.A Think Time : N.A

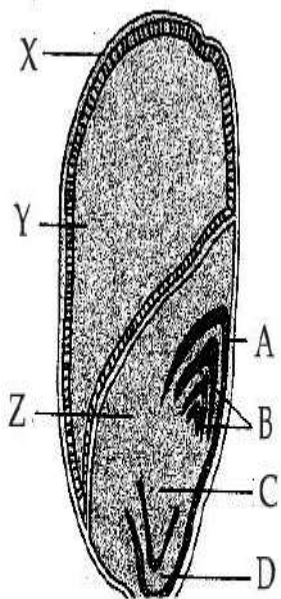
Minimum Instruction Time : 0

Correct Marks : 5 Wrong Marks : 1

Question Key Details :

Key	Value
Comprehension	Comp2

The following diagram shows an endospermic seed of Maize grain. Answer the following question :



The part which provides nourishment to the developing embryo is :

- (1) A
- (2) Y
- (3) B
- (4) D

Options :

54025064265. 1

54025064266. 2

54025064267. 3

54025064268. 4

Question Number : 97 Question Id : 54025016067 Question Type : MCQ Option Shuffling : No

Is Question Mandatory : No Calculator : None Response Time : N.A Think Time : N.A

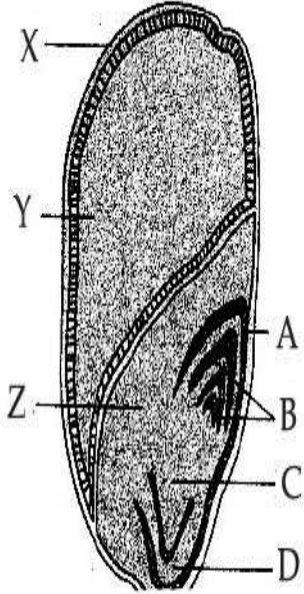
Minimum Instruction Time : 0

Correct Marks : 5 Wrong Marks : 1

Question Key Details :

Key	Value
Comprehension	Comp2

निम्नलिखित आरेख में मक्का के दाने का भ्रूणपोष दर्शाया गया है। निम्नलिखित प्रश्न का उत्तर दीजिए :



कौन सा भाग विकासशील भ्रूण का पोषण करता है?

- (1) A
- (2) Y
- (3) B
- (4) D

Options :

54025064265. 1

54025064266. 2

54025064267. 3

54025064268. 4

Question Number : 98 Question Id : 54025016068 Question Type : MCQ Option Shuffling : No

Is Question Mandatory : No Calculator : None Response Time : N.A Think Time : N.A

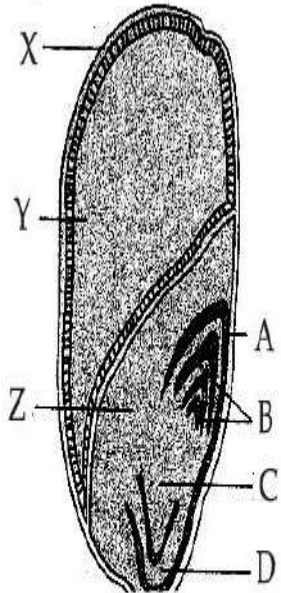
Minimum Instruction Time : 0

Correct Marks : 5 Wrong Marks : 1

Question Key Details :

Key	Value
Comprehension	Comp2

The following diagram shows an endospermic seed of Maize grain. Answer the following question :



In diagram the sheath which covers radicle is shown by ?

- (1) A
- (2) B
- (3) C
- (4) D

Options :

54025064269. 1

54025064270. 2

54025064271. 3

54025064272. 4

Question Number : 98 Question Id : 54025016068 Question Type : MCQ Option Shuffling : No

Is Question Mandatory : No Calculator : None Response Time : N.A Think Time : N.A

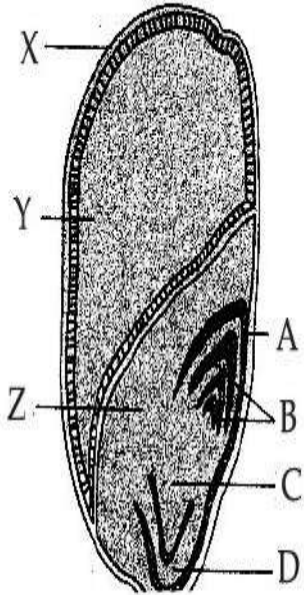
Minimum Instruction Time : 0

Correct Marks : 5 Wrong Marks : 1

Question Key Details :

Key	Value
Comprehension	Comp2

निम्नलिखित आरेख में मक्का के दाने का भ्रूणपोष दर्शाया गया है। निम्नलिखित प्रश्न का उत्तर दीजिए :



कौन सा आच्छंद, मूलांकर को ढकता है?

- (1) A
- (2) B
- (3) C
- (4) D

Options :

54025064269. 1

54025064270. 2

54025064271. 3

54025064272. 4

Question Number : 99 Question Id : 54025016069 Question Type : MCQ Option Shuffling : No

Is Question Mandatory : No Calculator : None Response Time : N.A Think Time : N.A

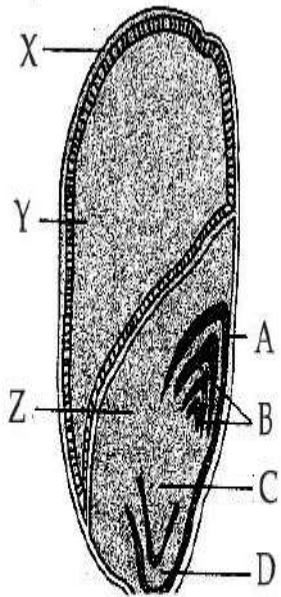
Minimum Instruction Time : 0

Correct Marks : 5 Wrong Marks : 1

Question Key Details :

Key	Value
Comprehension	Comp2

The following diagram shows an endospermic seed of Maize grain. Answer the following question :



In diagram the scutellum is represented by :

- (1) A
- (2) Y
- (3) Z
- (4) D

Options :

54025064273. 1

54025064274. 2

54025064275. 3

54025064276. 4

Question Number : 99 Question Id : 54025016069 Question Type : MCQ Option Shuffling : No

Is Question Mandatory : No Calculator : None Response Time : N.A Think Time : N.A

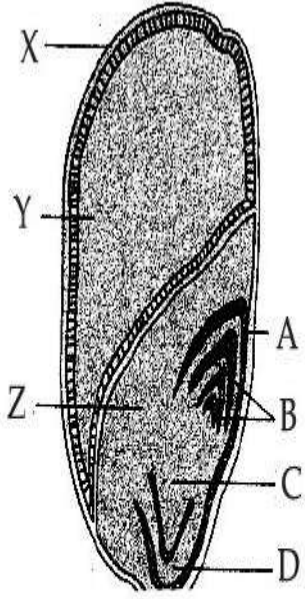
Minimum Instruction Time : 0

Correct Marks : 5 Wrong Marks : 1

Question Key Details :

Key	Value
-----	-------

निम्नलिखित आरेख में मक्का के दाने का भ्रूणपोष दर्शाया गया है। निम्नलिखित प्रश्न का उत्तर दीजिए :



स्क्यूटेलम प्रदर्शित करता है :

- (1) A
- (2) Y
- (3) Z
- (4) D

Options :

54025064273. 1

54025064274. 2

54025064275. 3

54025064276. 4

Question Number : 100 Question Id : 54025016070 Question Type : MCQ Option Shuffling : No

Is Question Mandatory : No Calculator : None Response Time : N.A Think Time : N.A

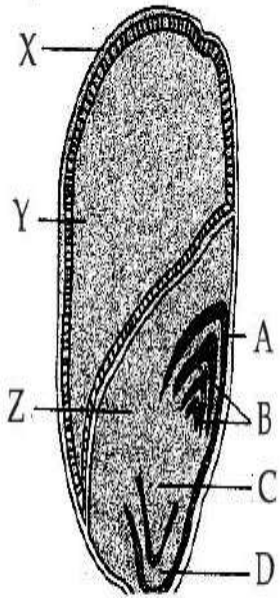
Minimum Instruction Time : 0

Correct Marks : 5 Wrong Marks : 1

Question Key Details :

Key	Value
Comprehension	Comp2

The following diagram shows an endospermic seed of Maize grain. Answer the following question :



In diagram the sheath which covers plumule is shown by :

- (1) A
- (2) B
- (3) C
- (4) D

Options :

54025064277. 1

54025064278. 2

54025064279. 3

54025064280. 4

Question Number : 100 Question Id : 54025016070 Question Type : MCQ Option Shuffling : No

Is Question Mandatory : No Calculator : None Response Time : N.A Think Time : N.A

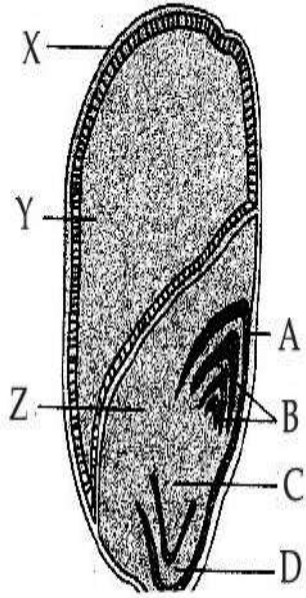
Minimum Instruction Time : 0

Correct Marks : 5 Wrong Marks : 1

Question Key Details :

Key	Value
Comprehension	Comp2

निम्नलिखित आरेख में मक्का के दाने का भ्रूणपोष दर्शाया गया है। निम्नलिखित प्रश्न का उत्तर दीजिए :



आरेख के अनुसार कौन सा आच्छद प्रांकुर को ढकता है?

- (1) A
- (2) B
- (3) C
- (4) D

Options :

54025064277. 1

54025064278. 2

54025064279. 3

54025064280. 4

Psychology

Group Number :	3
Group Id :	540250336
Group Maximum Duration :	45
Group Minimum Duration :	45
Show Attended Group? :	No
Edit Attended Group? :	No

Break time : 0
Group Marks : 200
Is this Group for Examiner? : No
Examiner permission : Cant View
Show Progress Bar? : No

Psychology

Section Id : 540250406
Section Number : 1
Section type : Online
Mandatory or Optional : Mandatory
Number of Questions : 50
Number of Questions to be attempted : 40
Section Marks : 200
Enable Mark as Answered Mark for Review and Clear Response : Yes
Maximum Instruction Time : 0
Sub-Section Number : 1
Sub-Section Id : 5402501141
Question Shuffling Allowed : Yes
Is Section Default? : null

Question Number : 101 Question Id : 54025016181 Question Type : MCQ Option Shuffling : No
Is Question Mandatory : No Calculator : None Response Time : N.A Think Time : N.A
Minimum Instruction Time : 0
Correct Marks : 5 Wrong Marks : 1

Question Key Details :

Key	Value
Comprehension	MCQ

_____ states that, situation and circumstance in which one is placed influence one's behaviour.

- (1) Individual Differences
- (2) Situationism
- (3) Intelligence
- (4) Values

Options :

54025064721. 1

54025064722. 2

54025064723. 3

54025064724. 4

Question Number : 101 Question Id : 54025016181 Question Type : MCQ Option Shuffling : No

Is Question Mandatory : No Calculator : None Response Time : N.A Think Time : N.A

Minimum Instruction Time : 0

Correct Marks : 5 Wrong Marks : 1

Question Key Details :

Key	Value
Comprehension	MCQ

किसी का व्यवहार स्थितियों तथा परिस्थितियों द्वारा प्रभावित होता है जिसमें वह रहता है _____ द्वारा ही पता चलता है।

- (1) व्यक्तिगत विभिन्नता
- (2) स्थितिवाद
- (3) बुद्धि
- (4) मूल्य

Options :

54025064721. 1

54025064722. 2

54025064723. 3

54025064724. 4

Question Number : 102 Question Id : 54025016182 Question Type : MCQ Option Shuffling : No

Is Question Mandatory : No Calculator : None Response Time : N.A Think Time : N.A

Minimum Instruction Time : 0

Correct Marks : 5 Wrong Marks : 1

Question Key Details :

Key	Value
Comprehension	MCQ

As per the Hierarchical Model given by Arthur Jensen, Level 1 is the _____ where output is similar to input.

- (1) Cognitive competence
- (2) Problem solving ability
- (3) Associative learning
- (4) Semantic learning

Options :

54025064725. 1

54025064726. 2

54025064727. 3

54025064728. 4

Question Number : 102 Question Id : 54025016182 Question Type : MCQ Option Shuffling : No

Is Question Mandatory : No Calculator : None Response Time : N.A Think Time : N.A

Minimum Instruction Time : 0

Correct Marks : 5 Wrong Marks : 1

Question Key Details :

Key	Value
Comprehension	MCQ

आरथर जैनसन के द्वारा किए पदानुक्रमिक मॉडल के अनुसार, प्रथम स्तर _____ है जहाँ निर्गत, आगत के समान है।

- (1) संज्ञानात्मक क्षमता
- (2) समस्या समाधान योग्यता
- (3) साहचर्यात्मक अधिगम
- (4) शब्दार्थ विज्ञान अधिगम

Options :

54025064725. 1

54025064726. 2

54025064727. 3

54025064728. 4

Question Number : 103 Question Id : 54025016183 Question Type : MCQ Option Shuffling : No**Is Question Mandatory : No Calculator : None Response Time : N.A Think Time : N.A****Minimum Instruction Time : 0****Correct Marks : 5 Wrong Marks : 1****Question Key Details :**

Key	Value
Comprehension	MCQ

Identify the psychologist who gave the notion of contextual or practical intelligence which implies that intelligence is a product of culture.

- (1) Gardner
- (2) J.P. Das, Jack Naglieri and Kirby
- (3) Arthur Jensen
- (4) Robert Sternberg

Options :

54025064729. 1

54025064730. 2

54025064731. 3

54025064732. 4

Question Number : 103 Question Id : 54025016183 Question Type : MCQ Option Shuffling : No**Is Question Mandatory : No Calculator : None Response Time : N.A Think Time : N.A****Minimum Instruction Time : 0****Correct Marks : 5 Wrong Marks : 1****Question Key Details :**

Key	Value
-----	-------

Comprehension	MCQ
---------------	-----

उस मनोवैज्ञानिक की पहचान कीजिए जिन्होंने सांदर्भिक अथवा व्यवहारिक बुद्धिमत्ता की धारणा दी जो यह संकत देती है कि बुद्धिमत्ता संस्कृति का गुणन है।

- (1) गार्डनर
- (2) जे.पी. दास, जैक नागलीरी तथा किर्बी
- (3) आरथर-जैनसन
- (4) राबर्ट स्टर्नबर्ग

Options :

54025064729. 1
54025064730. 2
54025064731. 3
54025064732. 4

Question Number : 104 Question Id : 54025016184 Question Type : MCQ Option Shuffling : No Is Question Mandatory : No Calculator : None Response Time : N.A Think Time : N.A Minimum Instruction Time : 0

Correct Marks : 5 Wrong Marks : 1

Question Key Details :

Key	Value
Comprehension	MCQ

Seema wants to conduct a creativity test on one of her friends. Which of the following criteria she needs to fulfil to conduct the creativity test ?

- (1) She needs to undergo extensive training for administration and scoring
- (2) She can use any intelligence test to measure
- (3) She needs to learn to sympathise with her friend
- (4) She needs to ask her friend to give more conventional responses to the items

Options :

54025064733. 1
54025064734. 2
54025064735. 3

54025064736. 4

Question Number : 104 Question Id : 54025016184 Question Type : MCQ Option Shuffling : No

Is Question Mandatory : No Calculator : None Response Time : N.A Think Time : N.A

Minimum Instruction Time : 0

Correct Marks : 5 Wrong Marks : 1

Question Key Details :

Key	Value
Comprehension	MCQ

सीमा अपनी एक दोस्त का सृजनात्मक परीक्षण करना चाहती है। सृजनात्मकता परीक्षण की आवश्यकताओं को निम्न में से कौन-सा मानदंड पूर्ण करता है?

- (1) उसे परीक्षण पत्र का उपयोग करने तथा समंकन करने के लिए विस्तृत प्रशिक्षण की आवश्यकता है
- (2) वह मापन के लिए किसी भी बुद्धि परीक्षण का प्रयोग कर सकती है
- (3) उसे अपनी दोस्त के साथ सहानुभूति रखने की आवश्यकता है
- (4) वो अपने मित्र से कहे कि - प्रत्येक प्रश्न का उत्तर औपचारिक रूप से दें।

Options :

54025064733. 1

54025064734. 2

54025064735. 3

54025064736. 4

Question Number : 105 Question Id : 54025016185 Question Type : MCQ Option Shuffling : No

Is Question Mandatory : No Calculator : None Response Time : N.A Think Time : N.A

Minimum Instruction Time : 0

Correct Marks : 5 Wrong Marks : 1

Question Key Details :

Key	Value
Comprehension	MCQ

Your friend is a fabulous painter. Keeping in mind various intelligences from Howard Gardner's theory, which of the following is the most suitable intelligence you see in your friend's ability in forming, using and transforming mental images.

- (1) Linguistic
- (2) Logical Mathematical
- (3) Interpersonal
- (4) Spatial

Options :

54025064737. 1

54025064738. 2

54025064739. 3

54025064740. 4

Question Number : 105 Question Id : 54025016185 Question Type : MCQ Option Shuffling : No

Is Question Mandatory : No Calculator : None Response Time : N.A Think Time : N.A

Minimum Instruction Time : 0

Correct Marks : 5 Wrong Marks : 1

Question Key Details :

Key	Value
Comprehension	MCQ

आपका मित्र उच्च कोटि का पेंटर है। हवार्ड गार्डनर की विभिन्न बुद्धिमत्ता को ध्यान में रखते हुए, अपने मित्र की निम्न योग्यताओं (रचनात्मकता प्रयोग एवं रूपांतरण मानसिक धारणा) से बतायें कि कौन उपयुक्त बुद्धिमत्ता का सिद्धांत है।

- (1) भाषागत
- (2) तार्किक-गणितीय
- (3) अंतवैयक्तिक
- (4) देशिक

Options :

54025064737. 1

54025064738. 2

54025064739. 3

Question Number : 106 Question Id : 54025016186 Question Type : MCQ Option Shuffling : No

Is Question Mandatory : No Calculator : None Response Time : N.A Think Time : N.A

Minimum Instruction Time : 0

Correct Marks : 5 Wrong Marks : 1

Question Key Details :

Key	Value
Comprehension	MCQ

Which of the following statements are **not** true for gifted children ?

- (A) Advanced logical thinking and problem solving behaviour
- (B) Difficulty in processing information
- (C) Independent and non-conformist thinking
- (D) Lack original and creative thinking
- (E) Prefer solitary academic activities for long period

Choose the **correct** answer from the options given below :

- (1) (A) and (B) only
- (2) (B) and (E) only
- (3) (C) and (A) only
- (4) (B) and (D) only

Options :

54025064741. 1

54025064742. 2

54025064743. 3

54025064744. 4

Question Number : 106 Question Id : 54025016186 Question Type : MCQ Option Shuffling : No

Is Question Mandatory : No Calculator : None Response Time : N.A Think Time : N.A

Minimum Instruction Time : 0

Correct Marks : 5 Wrong Marks : 1

Question Key Details :

Key	Value
Comprehension	MCQ

निम्न में से कौन-से कथन प्रतिभाशाली बालकों के लिए सत्य नहीं हैं?

- (A) उच्च तार्किक चिन्तन और समस्या समाधान व्यवहार
- (B) सूचना संसाधन में जटिलता
- (C) स्वतन्त्र व अननुरूप प्रकार का चिन्तन
- (D) मौलिक एवं सृजनात्मक चिन्तन में कमी
- (E) लंबी अवधी तक अकेले रह कर अध्ययन की क्रिया को पसन्द करता है।

नीचे दिए गए विकल्पों में से सही उत्तर का चयन कीजिए :

- (1) केवल (A) और (B)
- (2) केवल (B) और (E)
- (3) केवल (C) और (A)
- (4) केवल (B) और (D)

Options :

54025064741. 1

54025064742. 2

54025064743. 3

54025064744. 4

Question Number : 107 Question Id : 54025016187 Question Type : MCQ Option Shuffling : No

Is Question Mandatory : No Calculator : None Response Time : N.A Think Time : N.A

Minimum Instruction Time : 0

Correct Marks : 5 Wrong Marks : 1

Question Key Details :

Key	Value
Comprehension	MCQ

Match List - I with List - II.

List - I		List - II	
Description		IQ range	
(A)	Borderline	(I)	80 - 89
(B)	High average	(II)	70 - 79
(C)	Low average	(III)	90 - 109
(D)	Average	(IV)	110 - 119

Choose the **correct** answer from the options given below :

- (1) (A)-(II), (B)-(IV), (C)-(III), (D)-(I)
- (2) (A)-(I), (B)-(II), (C)-(IV), (D)-(III)
- (3) (A)-(II), (B)-(IV), (C)-(I), (D)-(III)
- (4) (A)-(I), (B)-(II), (C)-(III), (D)-(IV)

Options :

- 54025064745. 1
- 54025064746. 2
- 54025064747. 3
- 54025064748. 4

Question Number : 107 Question Id : 54025016187 Question Type : MCQ Option Shuffling : No

Is Question Mandatory : No Calculator : None Response Time : N.A Think Time : N.A

Minimum Instruction Time : 0

Correct Marks : 5 Wrong Marks : 1

Question Key Details :

Key	Value
Comprehension	MCQ

सूची-I से सूची-II का मिलान कीजिए:

सूची-I विवरण	सूची-II बुद्धि लब्धि वर्ग
(A) सीमावर्ती	(I) 80 - 89
(B) औसत से अधिक	(II) 70 - 79
(C) औसत से कम	(III) 90 - 109
(D) औसत	(IV) 110 - 119

नीचे दिए गए विकल्पों में से सही उत्तर का चयन कीजिए :

- (1) (A)-(II), (B)-(IV), (C)-(III), (D)-(I)
- (2) (A)-(I), (B)-(II), (C)-(IV), (D)-(III)
- (3) (A)-(II), (B)-(IV), (C)-(I), (D)-(III)
- (4) (A)-(I), (B)-(II), (C)-(III), (D)-(IV)

Options :

54025064745. 1

54025064746. 2

54025064747. 3

54025064748. 4

Question Number : 108 Question Id : 54025016188 Question Type : MCQ Option Shuffling : No

Is Question Mandatory : No Calculator : None Response Time : N.A Think Time : N.A

Minimum Instruction Time : 0

Correct Marks : 5 Wrong Marks : 1

Question Key Details :

Key	Value
Comprehension	MCQ

Mr. Thomas lost his wife due to corona virus. However, he calls on her mobile phone every single day hoping she would answer his calls. He is in a state of :

- (1) Denial
- (2) Projection
- (3) Repression
- (4) Reaction formation

Options :

54025064749. 1

54025064750. 2

54025064751. 3

54025064752. 4

Question Number : 108 Question Id : 54025016188 Question Type : MCQ Option Shuffling : No

Is Question Mandatory : No Calculator : None Response Time : N.A Think Time : N.A

Minimum Instruction Time : 0

Correct Marks : 5 Wrong Marks : 1

Question Key Details :

Key	Value
Comprehension	MCQ

श्रीमान थामस ने कोरोना वायरस के कारण अपनी पत्नी को खो (देहांत) दिया है। फिर भी प्रत्येक दिन वह उन्हें फोन कॉल करते हैं इस उम्मीद से की वह उत्तर देंगी। वह किस अवस्था में है:

- (1) अस्वीकरण
- (2) प्रक्षेपण
- (3) दमन
- (4) प्रतिक्रिया निर्माण

Options :

54025064749. 1

54025064750. 2

54025064751. 3

54025064752. 4

**Question Number : 109 Question Id : 54025016189 Question Type : MCQ Option Shuffling : No
Is Question Mandatory : No Calculator : None Response Time : N.A Think Time : N.A
Minimum Instruction Time : 0**

Correct Marks : 5 Wrong Marks : 1

Question Key Details :

Key	Value
Comprehension	MCQ

The concept of 'Collective Unconscious' was given by :

- (1) Karen Horney
- (2) Carl Jung
- (3) Alfred Adler
- (4) Erich from

Options :

54025064753. 1

54025064754. 2

54025064755. 3

54025064756. 4

**Question Number : 109 Question Id : 54025016189 Question Type : MCQ Option Shuffling : No
Is Question Mandatory : No Calculator : None Response Time : N.A Think Time : N.A
Minimum Instruction Time : 0**

Correct Marks : 5 Wrong Marks : 1

Question Key Details :

Key	Value
Comprehension	MCQ

‘सामूहिक अचेतन’ का प्रत्यय किसके द्वारा दिया गया था :

- (1) कैरन हैरनी
- (2) कार्ल युंग
- (3) एलफ़ेड एडलर
- (4) एरिक फ़्रौम

Options :

54025064753. 1

54025064754. 2

54025064755. 3

54025064756. 4

Question Number : 110 Question Id : 54025016190 Question Type : MCQ Option Shuffling : No

Is Question Mandatory : No Calculator : None Response Time : N.A Think Time : N.A

Minimum Instruction Time : 0

Correct Marks : 5 Wrong Marks : 1

Question Key Details :

Key	Value
Comprehension	MCQ

Prakash is achievement-oriented, dependable responsible, hardworking and self-controlled. Prakash is high on _____ factor.

- (1) Extraversion
- (2) Agreeableness
- (3) Neuroticism
- (4) Conscientiousness

Options :

54025064757. 1

54025064758. 2

54025064759. 3

54025064760. 4

Question Number : 110 Question Id : 54025016190 Question Type : MCQ Option Shuffling : No

Is Question Mandatory : No Calculator : None Response Time : N.A Think Time : N.A

Minimum Instruction Time : 0

Correct Marks : 5 Wrong Marks : 1

Question Key Details :

Key	Value
Comprehension	MCQ

प्रकाश उपलब्धि-उन्मुक्त, विश्वसनीय, उत्तरदायी, मेहनती और आत्म नियंत्रित है। प्रकाश में कौन सा कारण _____
उच्च स्तरीय है।

- (1) बहिर्मुखता
- (2) सहमतिशीलता
- (3) तंत्रिकाताप
- (4) अंतर्वेकेशिलता

Options :

54025064757. 1

54025064758. 2

54025064759. 3

54025064760. 4

Question Number : 111 Question Id : 54025016191 Question Type : MCQ Option Shuffling : No

Is Question Mandatory : No Calculator : None Response Time : N.A Think Time : N.A

Minimum Instruction Time : 0

Correct Marks : 5 Wrong Marks : 1

Question Key Details :

Key	Value
Comprehension	MCQ

Mr. 'A', is working in a Multinational Company (MNC). He is always in a great hurry, possesses high motivation, feels short of time. Identify the type of personality, Mr. 'A', is displaying.

- (1) Type C
- (2) Type D
- (3) Type A
- (4) Type B

Options :

54025064761. 1

54025064762. 2

54025064763. 3

54025064764. 4

Question Number : 111 Question Id : 54025016191 Question Type : MCQ Option Shuffling : No

Is Question Mandatory : No Calculator : None Response Time : N.A Think Time : N.A

Minimum Instruction Time : 0

Correct Marks : 5 Wrong Marks : 1

Question Key Details :

Key	Value
Comprehension	MCQ

श्रीमान 'अ' एक मल्टीनेशनल कंपनी (MNC) में काम कर रहे हैं। वह हमेशा बहुत जल्दी में रहते हैं, अधिक अभिप्रेरित, समय की कमी को महसूस करते हैं। श्रीमान 'अ' के व्यक्तित्व के प्रकार पहचान कीजिए :

- (1) टाइप सी
- (2) टाइप डी
- (3) टाइप ए
- (4) टाइप बी

Options :

54025064761. 1

54025064762. 2

54025064763. 3

54025064764. 4

**Question Number : 112 Question Id : 54025016192 Question Type : MCQ Option Shuffling : No
Is Question Mandatory : No Calculator : None Response Time : N.A Think Time : N.A
Minimum Instruction Time : 0**

Correct Marks : 5 Wrong Marks : 1

Question Key Details :

Key	Value
Comprehension	MCQ

You strongly believe you can control, select, influence, and even construct the circumstances of your life. You do not believe in luck or fate for passing your examinations. You would be high on _____ as you have the conviction about your own effectiveness.

- (1) Self - concept
- (2) Self - esteem
- (3) Self efficacy
- (4) Self control

Options :

54025064765. 1

54025064766. 2

54025064767. 3

54025064768. 4

**Question Number : 112 Question Id : 54025016192 Question Type : MCQ Option Shuffling : No
Is Question Mandatory : No Calculator : None Response Time : N.A Think Time : N.A
Minimum Instruction Time : 0**

Correct Marks : 5 Wrong Marks : 1

Question Key Details :

Key	Value
Comprehension	MCQ

आप पूर्ण विश्वास करते हैं कि आप स्वयं अपने जीवन को नियन्त्रित, चयनित, प्रभावित और जीवन की परिस्थितियों का निर्माण भी कर सकते हैं। आप अपनी परीक्षाओं में सफल होने के लिए भाग्य पर भरोसा नहीं करते। आपको अपनी प्रभाविता पर दृढ़ विश्वास है इसलिए आपमें _____ उच्च होगा।

- (1) आत्म-संप्रत्यय
- (2) आत्म सम्मान
- (3) आत्म सक्षमता
- (4) आत्म-नियमन

Options :

54025064765. 1
54025064766. 2
54025064767. 3
54025064768. 4

Question Number : 113 Question Id : 54025016193 Question Type : MCQ Option Shuffling : No Is Question Mandatory : No Calculator : None Response Time : N.A Think Time : N.A Minimum Instruction Time : 0

Correct Marks : 5 Wrong Marks : 1

Question Key Details :

Key	Value
Comprehension	MCQ

In self report measure, the tendency of the subject to agree with items/questions irrespective of their content is known as _____.

- (1) Social desirability
- (2) Acquiescence
- (3) Agreeableness
- (4) Openness to experiences

Options :

54025064769. 1
54025064770. 2
54025064771. 3

54025064772. 4

Question Number : 113 Question Id : 54025016193 Question Type : MCQ Option Shuffling : No

Is Question Mandatory : No Calculator : None Response Time : N.A Think Time : N.A

Minimum Instruction Time : 0

Correct Marks : 5 Wrong Marks : 1

Question Key Details :

Key	Value
Comprehension	MCQ

आत्म-प्रतिवेदन मापन में, उत्तरदाता की प्रवृत्ति होती है कि वह विषय वस्तु पर ध्यान दिए बिना ही सवालों से सहमत हो। इसे _____ जाना जाता है।

- (1) सामाजिक वांछनीयता
- (2) संप्राप्ति अनुमनन
- (3) सहमतिशीलता
- (4) अनुभवों के प्रति मुक्त

Options :

54025064769. 1

54025064770. 2

54025064771. 3

54025064772. 4

Question Number : 114 Question Id : 54025016194 Question Type : MCQ Option Shuffling : No

Is Question Mandatory : No Calculator : None Response Time : N.A Think Time : N.A

Minimum Instruction Time : 0

Correct Marks : 5 Wrong Marks : 1

Question Key Details :

Key	Value
Comprehension	MCQ

Arrange the sequence of Draw-a-Person Test :

- (A) Then the subject is asked to draw a figure of an opposite sex person
- (B) A pencil and an eraser provided to facilitate the subject to draw a person
- (C) Interpretation is then done based on the drawing
- (D) The subject is asked to make a story about the person as a novel's character

Choose the **correct** answer from the options given below :

- (1) (B), (C), (D), (A)
- (2) (B), (A), (D), (C)
- (3) (D), (A), (B), (C)
- (4) (A), (D), (C), (B)

Options :

54025064773. 1

54025064774. 2

54025064775. 3

54025064776. 4

Question Number : 114 Question Id : 54025016194 Question Type : MCQ Option Shuffling : No

Is Question Mandatory : No Calculator : None Response Time : N.A Think Time : N.A

Minimum Instruction Time : 0

Correct Marks : 5 Wrong Marks : 1

Question Key Details :

Key	Value
Comprehension	MCQ

Draw-a-Person परीक्षण के क्रम को व्यवस्थित कीजिए :

- (A) उत्तरदाता से विपरीत लिंग के व्यक्ति का चित्र बनाने को कहा जाता है
- (B) एक पेंसिल और रबड़ उस आकृति को भली प्रकार बनाने के लिए दिया जाता है
- (C) बनाये हुये चित्र के आधार पर व्याख्या की जाती है
- (D) उत्तरदाता को एक कहानी उस व्यक्ति के विषय में बनाने के लिए कहा जाता है जो कि उस कहानी का एक पात्र है।

नीचे दिए गए विकल्पों में से सही उत्तर का चयन कीजिए :

- (1) (B), (C), (D), (A)
- (2) (B), (A), (D), (C)
- (3) (D), (A), (B), (C)
- (4) (A), (D), (C), (B)

Options :

54025064773. 1

54025064774. 2

54025064775. 3

54025064776. 4

Question Number : 115 Question Id : 54025016195 Question Type : MCQ Option Shuffling : No

Is Question Mandatory : No Calculator : None Response Time : N.A Think Time : N.A

Minimum Instruction Time : 0

Correct Marks : 5 Wrong Marks : 1

Question Key Details :

Key	Value
Comprehension	MCQ

Match List - I with List - II.

List - I

- (A) Morgan and Murray
- (B) Nomination
- (C) Sentence Completion Test
- (D) Minnesota Multiphasic Personality Inventory

List - II

- (I) Behavioural Analysis
- (II) Projective Technique
- (III) Self report measure
- (IV) TAT (Thematic Apperception Test)

Choose the **correct** answer from the options given below :

- (1) (A)-(II), (B)-(III), (C)-(IV), (D)-(I)
- (2) (A)-(IV), (B)-(II), (C)-(III), (D)-(I)
- (3) (A)-(I), (B)-(IV), (C)-(II), (D)-(III)
- (4) (A)-(IV), (B)-(I), (C)-(II), (D)-(III)

Options :

54025064777. 1

54025064778. 2

54025064779. 3

54025064780. 4

Question Number : 115 Question Id : 54025016195 Question Type : MCQ Option Shuffling : No

Is Question Mandatory : No Calculator : None Response Time : N.A Think Time : N.A

Minimum Instruction Time : 0

Correct Marks : 5 Wrong Marks : 1

Question Key Details :

Key	Value
Comprehension	MCQ

सूची-I से सूची-II का मिलान कीजिए:

सूची-I

- (A) मॉर्गन और मुर्रे
- (B) नोमिनेशन
- (C) वाक्य समापन परीक्षण
- (D) मिनिसोटा मल्टीफेसिक व्यक्तित्व प्रश्नावली

सूची-II

- (I) व्यवहारपरक विश्लेषण
- (II) प्रक्षेपी विधि
- (III) आत्म-प्रतिवेदन मापन
- (IV) TAT (कथानक संप्रत्यक्षण परीक्षण)

नीचे दिए गए विकल्पों में से सही उत्तर का चयन कीजिए :

- (1) (A)-(II), (B)-(III), (C)-(IV), (D)-(I)
- (2) (A)-(IV), (B)-(II), (C)-(III), (D)-(I)
- (3) (A)-(I), (B)-(IV), (C)-(II), (D)-(III)
- (4) (A)-(IV), (B)-(I), (C)-(II), (D)-(III)

Options :

54025064777. 1

54025064778. 2

54025064779. 3

54025064780. 4

Question Number : 116 Question Id : 54025016196 Question Type : MCQ Option Shuffling : No

Is Question Mandatory : No Calculator : None Response Time : N.A Think Time : N.A

Minimum Instruction Time : 0

Correct Marks : 5 Wrong Marks : 1

Question Key Details :

Key	Value
Comprehension	MCQ

Diagnostic and Statistical manual of Mental Disorders was published by _____

- (1) World Health Organisation (WHO)
- (2) American Association on Mental Deficiency (AAMD)
- (3) American Psychiatric Association (APA)
- (4) American Psychological Association (APA)

Options :

54025064781. 1

54025064782. 2

54025064783. 3

54025064784. 4

Question Number : 116 Question Id : 54025016196 Question Type : MCQ Option Shuffling : No**Is Question Mandatory : No Calculator : None Response Time : N.A Think Time : N.A****Minimum Instruction Time : 0****Correct Marks : 5 Wrong Marks : 1****Question Key Details :**

Key	Value
Comprehension	MCQ

डायगनोस्टिक एंड स्टैटिस्टिकल मैनुअल ऑफ मेंटल डिसऑर्डर को _____ के द्वारा प्रकाशित किया गया था।

- (1) विश्व स्वास्थ्य संगठन (WHO)
- (2) अमेरिकन एसोसिएशन ऑफ मेंटल डेफिशनशि (AAMD)
- (3) अमेरिकन साइकियाट्रिक असोसियेशन (APA)
- (4) अमेरिकन साइकोलॉजिकल असोसियेशन (APA)

Options :

54025064781. 1

54025064782. 2

54025064783. 3

54025064784. 4

Question Number : 117 Question Id : 54025016197 Question Type : MCQ Option Shuffling : No**Is Question Mandatory : No Calculator : None Response Time : N.A Think Time : N.A****Minimum Instruction Time : 0****Correct Marks : 5 Wrong Marks : 1****Question Key Details :**

Key	Value
Comprehension	MCQ

According to _____ approach, psychological problems are caused by inadequacies in the way an individual thinks, feels or perceives the world.

- (1) Psychological
- (2) Supernatural
- (3) Biological
- (4) Organismic

Options :

54025064785. 1

54025064786. 2

54025064787. 3

54025064788. 4

Question Number : 117 Question Id : 54025016197 Question Type : MCQ Option Shuffling : No

Is Question Mandatory : No Calculator : None Response Time : N.A Think Time : N.A

Minimum Instruction Time : 0

Correct Marks : 5 Wrong Marks : 1

Question Key Details :

Key	Value
Comprehension	MCQ

_____ उपागम के अनुसार, मनोवैज्ञानिक समस्याओं का कारण व्यक्तिगत विचार, भावनाओं तथा संसार को देखने के नज़रिये में अपर्याप्तता के कारण उत्पन्न होता है।

- (1) मनोवैज्ञानिक
- (2) आलौकिक
- (3) जैविक
- (4) सर्वांगिक उपागम

Options :

54025064785. 1

54025064786. 2

54025064787. 3

54025064788. 4

Question Number : 118 Question Id : 54025016198 Question Type : MCQ Option Shuffling : No

Is Question Mandatory : No Calculator : None Response Time : N.A Think Time : N.A

Minimum Instruction Time : 0

Correct Marks : 5 Wrong Marks : 1

Question Key Details :

Key	Value
Comprehension	MCQ

_____ refers to below average intellectual functioning and deficits or impairments in adaptive behaviour which are manifested before the age of 18 years.

- (1) Obsessive - Compulsive Disorder
- (2) Separation Anxiety Disorder
- (3) Intellectual Disability
- (4) Autism Spectrum Disorder

Options :

54025064789. 1

54025064790. 2

54025064791. 3

54025064792. 4

Question Number : 118 Question Id : 54025016198 Question Type : MCQ Option Shuffling : No

Is Question Mandatory : No Calculator : None Response Time : N.A Think Time : N.A

Minimum Instruction Time : 0

Correct Marks : 5 Wrong Marks : 1

Question Key Details :

Key	Value
Comprehension	MCQ

नीचे दिए गए तथ्यों का प्रयोग करते हुए औसत वृद्धि प्रकार्य और व्यवहार अनुकूलन में हानी, जो 18 वर्ष से पूर्व में परिलक्षित होता है।

- (1) मनोग्रस्ति-बाध्यता विकार
- (2) वियोगज दुश्चिंता विकार
- (3) बौद्धिक अशक्तता विकार
- (4) स्वलीनता वर्णक्रम विकार

Options :

54025064789. 1

54025064790. 2

54025064791. 3

54025064792. 4

Question Number : 119 Question Id : 54025016199 Question Type : MCQ Option Shuffling : No

Is Question Mandatory : No Calculator : None Response Time : N.A Think Time : N.A

Minimum Instruction Time : 0

Correct Marks : 5 Wrong Marks : 1

Question Key Details :

Key	Value
Comprehension	MCQ

Kavita has a distorted body image of being overweight. She often refuses to eat, exercises compulsively and even starves. She is suffering from _____.

- (1) Binge eating
- (2) Bulimia Nervosa
- (3) Anorexia Nervosa
- (4) Anxiety Disorders

Options :

54025064793. 1

54025064794. 2

54025064795. 3

54025064796. 4

Question Number : 119 Question Id : 54025016199 Question Type : MCQ Option Shuffling : No Is Question Mandatory : No Calculator : None Response Time : N.A Think Time : N.A Minimum Instruction Time : 0

Correct Marks : 5 Wrong Marks : 1

Question Key Details :

Key	Value
Comprehension	MCQ

कविता की बढ़े हुए वजन के कारण विरूपित शारीरिक छवि है। प्रायः वह खाने को मना करती है। अत्यधिक व्यायाम और भूखी भी रहती हैं वह। वह _____ से पीड़ित है।

- (1) अनियंत्रित भोजन
- (2) क्षुधतिशियता
- (3) क्षुधा-अभाव
- (4) दृशिचता विकार

Options :

54025064793. 1
54025064794. 2
54025064795. 3
54025064796. 4

Question Number : 120 Question Id : 54025016200 Question Type : MCQ Option Shuffling : No Is Question Mandatory : No Calculator : None Response Time : N.A Think Time : N.A Minimum Instruction Time : 0

Correct Marks : 5 Wrong Marks : 1

Question Key Details :

Key	Value
Comprehension	MCQ

Schizophrenia is the descriptive term for a group of psychotic disorder. Identify its other symptoms :

- (A) The positive symptoms are the excesses of thought, emotion and behaviour
- (B) Formal thought disorder is a part of schizophrenia symptom
- (C) Delusions are a part of negative symptoms
- (D) The negative symptoms are the deficits in thought, emotion and behaviour
- (E) Blunt affect is showing excessive emotions

Choose the **correct** answer from the options given below :

- (1) (B), (C), (E) Only
- (2) (A), (B), (E) Only
- (3) (A), (B), (D) Only
- (4) (B), (C), (D) Only

Options :

54025064797. 1

54025064798. 2

54025064799. 3

54025064800. 4

Question Number : 120 Question Id : 54025016200 Question Type : MCQ Option Shuffling : No

Is Question Mandatory : No Calculator : None Response Time : N.A Think Time : N.A

Minimum Instruction Time : 0

Correct Marks : 5 Wrong Marks : 1

Question Key Details :

Key	Value
Comprehension	MCQ

मनोविदलता मनोविकृति विकार के समूह का विवरणात्मक पद है। इसके अन्य लक्षणों को पहचानिए :

- (A) विचारों, भावों तथा व्यवहार की अधिकता एक सकारात्मक लक्षण है
- (B) औपचारिक विचार विकार मनोविदलता लक्षण का एक भाग है
- (C) भ्रमासक्ति नकारात्मक लक्षणों का एक भाग है
- (D) विचारों, भावों तथा व्यवहार का अभाव नकारात्मक लक्षण है
- (E) कुंठित भाव अत्यधिक भावों को दर्शाता है

नीचे दिए गए विकल्पों में से **सही उत्तर** का चयन कीजिए :

- (1) केवल (B), (C), (E)
- (2) केवल (A), (B), (E)
- (3) केवल (A), (B), (D)
- (4) केवल (B), (C), (D)

Options :

54025064797. 1

54025064798. 2

54025064799. 3

54025064800. 4

Question Number : 121 Question Id : 54025016201 Question Type : MCQ Option Shuffling : No

Is Question Mandatory : No Calculator : None Response Time : N.A Think Time : N.A

Minimum Instruction Time : 0

Correct Marks : 5 Wrong Marks : 1

Question Key Details :

Key	Value
Comprehension	MCQ

Match List - I with List - II.

- | List - I | List - II |
|-----------------|--------------------------------------------------------------------------|
| (A) Deviance | (I) Interfering with person's ability to carry out day to day activities |
| (B) Distress | (II) Different, extreme, unusual, even bizarre |
| (C) Dysfunction | (III) Unpleasant and upsetting to the person and to others |
| (D) Danger | (IV) Causing harm to the person or to others |

Choose the correct answer from the options given below :

- (1) (A)-(I), (B)-(IV), (C)-(III), (D)-(II)
- (2) (A)-(II), (B)-(III), (C)-(I), (D)-(IV)
- (3) (A)-(II), (B)-(IV), (C)-(III), (D)-(I)
- (4) (A)-(III), (B)-(I), (C)-(II), (D)-(IV)

Options :

54025064801. 1

54025064802. 2

54025064803. 3

54025064804. 4

Question Number : 121 Question Id : 54025016201 Question Type : MCQ Option Shuffling : No

Is Question Mandatory : No Calculator : None Response Time : N.A Think Time : N.A

Minimum Instruction Time : 0

Correct Marks : 5 Wrong Marks : 1

Question Key Details :

Key	Value
Comprehension	MCQ

सूची-I से सूची-II का मिलान कीजिए :

सूची-I	सूची-II
(A) विसामान्यता	(I) दैनिक क्रियाकलापों को पूर्ण करने में व्यक्ति की योग्यता के साथ हस्तक्षेप
(B) कष्ट	(II) भिन्न चरमबिन्दु असाधारण व अनोखा
(C) अपक्रिया	(III) असुखद तथा व्यक्ति और दूसरों को परेशान कर देना
(D) खतरा	(IV) व्यक्ति या दूसरों को नुकसान पहुँचाना

नीचे दिए गए विकल्पों में से सही उत्तर का चयन कीजिए :

- (1) (A)-(I), (B)-(IV), (C)-(III), (D)-(II)
- (2) (A)-(II), (B)-(III), (C)-(I), (D)-(IV)
- (3) (A)-(II), (B)-(IV), (C)-(III), (D)-(I)
- (4) (A)-(III), (B)-(I), (C)-(II), (D)-(IV)

Options :

54025064801. 1

54025064802. 2

54025064803. 3

54025064804. 4

Question Number : 122 Question Id : 54025016202 Question Type : MCQ Option Shuffling : No

Is Question Mandatory : No Calculator : None Response Time : N.A Think Time : N.A

Minimum Instruction Time : 0

Correct Marks : 5 Wrong Marks : 1

Question Key Details :

Key	Value
Comprehension	MCQ

Systematic Desensitization technique, given by Wolpe, is based on _____.

- (1) Principle of Reciprocal Inhibition
- (2) Modelling
- (3) Positive Reinforcement
- (4) Aversive conditioning

Options :

54025064805. 1

54025064806. 2

54025064807. 3

54025064808. 4

Question Number : 122 Question Id : 54025016202 Question Type : MCQ Option Shuffling : No**Is Question Mandatory : No Calculator : None Response Time : N.A Think Time : N.A****Minimum Instruction Time : 0****Correct Marks : 5 Wrong Marks : 1****Question Key Details :**

Key	Value
Comprehension	MCQ

वुल्फे (Wolpe) के द्वारा दी गई क्रमिक विसंवेदनीकरण विधि _____ पर आधारित है।

- (1) अन्योन्य प्रावरोध का सिद्धांत
- (2) प्रतिरूपण
- (3) सकारात्मक पुनर्बलन
- (4) विमुखी अनुबंधन

Options :

54025064805. 1

54025064806. 2

54025064807. 3

54025064808. 4

Question Number : 123 Question Id : 54025016203 Question Type : MCQ Option Shuffling : No**Is Question Mandatory : No Calculator : None Response Time : N.A Think Time : N.A****Minimum Instruction Time : 0****Correct Marks : 5 Wrong Marks : 1****Question Key Details :**

Key	Value
Comprehension	MCQ

Leena goes to a therapist who conveys through her words and behavior that she is not judging her and will continue to show the same positive feelings towards the client even if he is rude. The therapist is demonstrating.

- (1) habit modification
- (2) self awareness
- (3) sympathy
- (4) unconditional positive regard

Options :

54025064809. 1

54025064810. 2

54025064811. 3

54025064812. 4

Question Number : 123 Question Id : 54025016203 Question Type : MCQ Option Shuffling : No

Is Question Mandatory : No Calculator : None Response Time : N.A Think Time : N.A

Minimum Instruction Time : 0

Correct Marks : 5 Wrong Marks : 1

Question Key Details :

Key	Value
Comprehension	MCQ

लीना एक चिकित्सक के पास जाती है जो अपने शब्दों और व्यवहार से दर्शाती है कि वह उसका मूल्यांकन नहीं कर रही और वह अपने मरीज के प्रति समान सकारात्मक भाव रखेगी चाहे मरीज कितना खराब व्यवहार क्यों न करें। इसमें चिकित्सक क्या प्रदर्शित करने का प्रयास कर रहा है?

- (1) आदतों में बदलाव
- (2) आत्म-जागरूकता
- (3) सहानुभूति
- (4) अशर्त सकारात्मक आदर

Options :

54025064809. 1

54025064810. 2

54025064811. 3

54025064812. 4

Question Number : 124 Question Id : 54025016204 Question Type : MCQ Option Shuffling : No

Is Question Mandatory : No Calculator : None Response Time : N.A Think Time : N.A

Minimum Instruction Time : 0

Correct Marks : 5 Wrong Marks : 1

Question Key Details :

Key	Value
Comprehension	MCQ

Identify the institute which has found Kundalini Yoga effective in the treatment of Obsessive Compulsive disorder.

- (1) National institute of Mental Health and Neurosciences, (NIMHANS), India
- (2) Institute for Non-linear Science University of California
- (3) Institute of Mental Health and Neuroscience, University of Los-Angeles
- (4) Institute for Non-linear Science, University of Los-Angeles

Options :

54025064813. 1

54025064814. 2

54025064815. 3

54025064816. 4

Question Number : 124 Question Id : 54025016204 Question Type : MCQ Option Shuffling : No

Is Question Mandatory : No Calculator : None Response Time : N.A Think Time : N.A

Minimum Instruction Time : 0

Correct Marks : 5 Wrong Marks : 1

Question Key Details :

Key	Value
Comprehension	MCQ

उस संस्थान की पहचान कीजिए जिसने यह बताया कि कुंडलिनी योग बाध्यता मनोग्रस्ति विकार के उपचार के लिए प्रभावी है।

- (1) राष्ट्रीय मानसिक स्वास्थ्य एवं तंत्रिकाविज्ञान संस्थान
- (2) अरैखिक विज्ञान संस्थान, कैलिफोर्निया विश्वविद्यालय
- (3) मानसिक स्वास्थ्य एवं तंत्रिका विज्ञान संस्थान, लॉस एंजलिस विश्वविद्यालय
- (4) अरैखिक विज्ञान संस्थान, लॉस एंजलिस विश्वविद्यालय

Options :

54025064813. 1

54025064814. 2

54025064815. 3

54025064816. 4

Question Number : 125 Question Id : 54025016205 Question Type : MCQ Option Shuffling : No

Is Question Mandatory : No Calculator : None Response Time : N.A Think Time : N.A

Minimum Instruction Time : 0

Correct Marks : 5 Wrong Marks : 1

Question Key Details :

Key	Value
Comprehension	MCQ

Identify the correct sequence in Aaron Beck's therapy.

- (A) The child develops a core schema, 'I am ugly' due to his experiences at home
- (B) The negative thoughts are known as cognitive distortions
- (C) This theory states that childhood experiences provided by the family develops core schemas in the child
- (D) These cognitive distortions distort the reality in a negative manner leading to dysfunctional cognitive structures
- (E) Later he gets a terrible remark in neighbourhood that he is not good looking leading to negative thoughts about himself

Choose the correct answer from the options given below :

- (1) (C), (E), (A), (D), (B)
- (2) (C), (A), (E), (B), (D)
- (3) (A), (B), (C), (E), (D)
- (4) (A), (C), (E), (D), (B)

Options :

54025064817. 1

54025064818. 2

54025064819. 3

54025064820. 4

Question Number : 125 Question Id : 54025016205 Question Type : MCQ Option Shuffling : No

Is Question Mandatory : No Calculator : None Response Time : N.A Think Time : N.A

Minimum Instruction Time : 0

Correct Marks : 5 Wrong Marks : 1

Question Key Details :

Key	Value
Comprehension	MCQ

आरोन बैक की चिकित्सा के सही क्रम को पहचानिए।

- (A) घर के अनुभवों के द्वारा बालक में मूल स्कीमा 'मैं कुरूप हूँ' विकसित होता है
- (B) नकारात्मक विचारों को संज्ञानात्मक विकृतियों के नाम से भी जाना जाता है
- (C) यह सिद्धान्त बताता है कि बच्चे में मूल स्कीमा का निर्धारण परिवार द्वारा दिये अनुभवों से होता है।
- (D) यह संज्ञानात्मक विकृतिया, वास्तविकता को नकारात्मक रूप से विकृत करती है। जो अपक्रियात्मक संज्ञानात्मक संरचना को अग्रसर करती है।
- (E) बाद में उसे अपने पड़ोस से भयानक टिप्पणी मिलती है कि वह दिखने में अच्छा नहीं है, जो कि उसे अपने बारे में नकारात्मक विचारों को उत्पन्न करती है।

नीचे दिए गए विकल्पों में से सही उत्तर का चयन कीजिए :

- (1) (C), (E), (A), (D), (B)
- (2) (C), (A), (E), (B), (D)
- (3) (A), (B), (C), (E), (D)
- (4) (A), (C), (E), (D), (B)

Options :

54025064817. 1

54025064818. 2

54025064819. 3

54025064820. 4

Question Number : 126 Question Id : 54025016206 Question Type : MCQ Option Shuffling : No

Is Question Mandatory : No Calculator : None Response Time : N.A Think Time : N.A

Minimum Instruction Time : 0

Correct Marks : 5 Wrong Marks : 1

Question Key Details :

Key	Value
Comprehension	MCQ

Identify the factors contributing to healing in Psychotherapies :

- (A) Techniques adopted by the therapist
- (B) Instruction given by the family and therapist
- (C) A good therapeutic alliance
- (D) Proper advice given by the client to therapist
- (E) Emotional unburdening of the client

Choose the **correct** answer from the options given below :

- (1) (A), (C), (E) only
- (2) (B), (D), (E) only
- (3) (B), (D), (A) only
- (4) (E), (A), (B) only

Options :

54025064821. 1

54025064822. 2

54025064823. 3

54025064824. 4

Question Number : 126 Question Id : 54025016206 Question Type : MCQ Option Shuffling : No

Is Question Mandatory : No Calculator : None Response Time : N.A Think Time : N.A

Minimum Instruction Time : 0

Correct Marks : 5 Wrong Marks : 1

Question Key Details :

Key	Value
Comprehension	MCQ

मनोवैज्ञानिक चिकित्सा के पुनः स्वस्थ करने वाले कारकों के योगदान को पहचानिए :

- (A) मनोवैज्ञानिक चिकित्सक द्वारा अपनाई गई विधियाँ
- (B) परिवार और चिकित्सक द्वारा दीए गए निर्देश
- (C) एक अच्छी चिकित्सात्मक मैत्री
- (D) सेवार्थी द्वारा चिकित्सक को दी गई उचित सलाह
- (E) सेवार्थी को संवेगों से बाहर निकालना

नीचे दिए गए विकल्पों में से **सही उत्तर** का चयन कीजिए :

- (1) केवल (A), (C), (E)
- (2) केवल (B), (D), (E)
- (3) केवल (B), (D), (A)
- (4) केवल (E), (A), (B)

Options :

54025064821. 1

54025064822. 2

54025064823. 3

54025064824. 4

Question Number : 127 Question Id : 54025016207 Question Type : MCQ Option Shuffling : No

Is Question Mandatory : No Calculator : None Response Time : N.A Think Time : N.A

Minimum Instruction Time : 0

Correct Marks : 5 Wrong Marks : 1

Question Key Details :

Key	Value
Comprehension	MCQ

Match List - I with List - II.

List - I	List - II
(A) Cognitive therapy	(I) It considers that question about meaning of one's life leads to problems
(B) Behaviour therapy	(II) It values one's personal growth
(C) Existential therapy	(III) It challenges the faulty thinking patterns of the client to reduce distress
(D) Humanistic therapy	(IV) It identifies the faulty conditioning patterns and sets up alternative ways to improve one's responses

Choose the correct answer from the options given below :

- (1) (A)-(III), (B)-(IV), (C)-(I), (D)-(II)
- (2) (A)-(II), (B)-(III), (C)-(IV), (D)-(I)
- (3) (A)-(IV), (B)-(II), (C)-(III), (D)-(I)
- (4) (A)-(II), (B)-(IV), (C)-(III), (D)-(I)

Options :

54025064825. 1

54025064826. 2

54025064827. 3

54025064828. 4

Question Number : 127 Question Id : 54025016207 Question Type : MCQ Option Shuffling : No

Is Question Mandatory : No Calculator : None Response Time : N.A Think Time : N.A

Minimum Instruction Time : 0

Correct Marks : 5 Wrong Marks : 1

Question Key Details :

Key	Value
Comprehension	MCQ

सूची-I से सूची-II का मिलान कीजिए:

सूची-I

सूची-II

- | | |
|---------------------------|-------------------------------------------------------------------------------------------------------|
| (A) संज्ञानात्मक चिकित्सा | (I) यह समझा जाता है कि किसी के जीवन के अर्थवत्ता पर प्रश्न करना, समस्याओं को और बढ़ाता है। |
| (B) व्यवहार परक चिकित्सा | (II) यह व्यक्ति की बैयक्तिक उन्नति को महत्व देता है। |
| (C) अस्तित्व परक चिकित्सा | (III) सेवार्थी के तनाव को कम करने हेतु, उसके गलत सोचने के तरीके को कम कर देता है |
| (D) मानवतावादी चिकित्सा | (IV) गलत सीखने के तरीके की पहचान करता है और अनुक्रियाओं में सुधार के लिए विकल्पों का निर्माण करता है। |

नीचे दिए गए विकल्पों में से सही उत्तर का चयन कीजिए :

- (1) (A)-(III), (B)-(IV), (C)-(I), (D)-(II)
- (2) (A)-(II), (B)-(III), (C)-(IV), (D)-(I)
- (3) (A)-(IV), (B)-(II), (C)-(III), (D)-(I)
- (4) (A)-(II), (B)-(IV), (C)-(III), (D)-(I)

Options :

54025064825. 1

54025064826. 2

54025064827. 3

54025064828. 4

Question Number : 128 Question Id : 54025016208 Question Type : MCQ Option Shuffling : No

Is Question Mandatory : No Calculator : None Response Time : N.A Think Time : N.A

Minimum Instruction Time : 0

Correct Marks : 5 Wrong Marks : 1

Question Key Details :

Key	Value
Comprehension	MCQ

Leena has developed a liking towards the French language because she finds her French teacher very knowledgeable. She rarely misses her French teacher's class and always appreciates the positive qualities which the teacher possessed. This process of attitude formation could be due to :

- (1) Learning through exposure to information
- (2) Learning attitude by being rewarded
- (3) Learning attitude by association
- (4) Learning attitude through personal experience

Options :

54025064829. 1

54025064830. 2

54025064831. 3

54025064832. 4

Question Number : 128 Question Id : 54025016208 Question Type : MCQ Option Shuffling : No

Is Question Mandatory : No Calculator : None Response Time : N.A Think Time : N.A

Minimum Instruction Time : 0

Correct Marks : 5 Wrong Marks : 1

Question Key Details :

Key	Value
Comprehension	MCQ

लीना का फ्रेंच भाषा के प्रति लगाव हो गया है क्योंकि उसे उसके फ्रेंच अध्यापक बहुत ज्ञानवान लगते हैं। वो शायद ही अपने फ्रेंच अध्यापक की क्लास छोड़ती है, तथा सदैव अपने फ्रेंच अध्यापक के सकारात्मक गुणों की प्रशंसा करती है दृष्टिकोण निर्माण की इस प्रक्रिया के कारण हैं :

- (1) सूचना के प्रभाव से अधिगम
- (2) पुरस्कृत होने के कारण अभिवृत्तियों को सीखना
- (3) साहचर्य द्वारा अभिवृत्तियों का अधिगम
- (4) व्यक्तिगत अनुभवों द्वारा अभिवृत्तियों का अधिगम

Options :

54025064829. 1

54025064830. 2

54025064831. 3

54025064832. 4

Question Number : 129 Question Id : 54025016209 Question Type : MCQ Option Shuffling : No

Is Question Mandatory : No Calculator : None Response Time : N.A Think Time : N.A

Minimum Instruction Time : 0

Correct Marks : 5 Wrong Marks : 1

Question Key Details :

Key	Value
Comprehension	MCQ

The _____ mode of message transmission is found to be more effective in bringing about an attitude change.

- (1) Digital
- (2) Pamphlets
- (3) Mass Media
- (4) Face-to-Face

Options :

54025064833. 1

54025064834. 2

54025064835. 3

54025064836. 4

Question Number : 129 Question Id : 54025016209 Question Type : MCQ Option Shuffling : No

Is Question Mandatory : No Calculator : None Response Time : N.A Think Time : N.A

Minimum Instruction Time : 0

Correct Marks : 5 Wrong Marks : 1

Question Key Details :

Key	Value
Comprehension	MCQ

अभिवृत्ति परिवर्तन में सूचना पहुँचाने का _____ माध्यम अधिक प्रभावी है।

- (1) डिजीटल
- (2) पैम्फ्लेट
- (3) जनसंचार माध्यम
- (4) आमने-सामने

Options :

54025064833. 1

54025064834. 2

54025064835. 3

54025064836. 4

Question Number : 130 Question Id : 54025016210 Question Type : MCQ Option Shuffling : No

Is Question Mandatory : No Calculator : None Response Time : N.A Think Time : N.A

Minimum Instruction Time : 0

Correct Marks : 5 Wrong Marks : 1

Question Key Details :

Key	Value
Comprehension	MCQ

Tuhin had taken a survey where he is required to rate the professional coaching centre that he has enrolled for by using a rating scale. He has given '9' point on a scale of 10 for every statement. Identify the feature of Tuhin's attitude that is reflected on the rating scale.

- (1) Valence
- (2) Extremeness
- (3) Multiplexity
- (4) Centrality

Options :

54025064837. 1

54025064838. 2

54025064839. 3

54025064840. 4

Question Number : 130 Question Id : 54025016210 Question Type : MCQ Option Shuffling : No Is Question Mandatory : No Calculator : None Response Time : N.A Think Time : N.A Minimum Instruction Time : 0

Correct Marks : 5 Wrong Marks : 1

Question Key Details :

Key	Value
Comprehension	MCQ

तूहिन ने एक सर्वेक्षण किया जिसमें उसे उस व्यवसायिक कोचिंग केंद्र जिसमें उसने प्रवेश लिया था, को रेटिंग स्केल पर रेटिंग देनी थी। उसने हर कथन में 10 में से 9 अंक दिए। तूहिन की मनोवृत्ति का उल्लेख कीजिए जो रेटिंग स्केल द्वारा परावर्तित होता है।

- (1) कर्षण शक्ति
- (2) चरम सीमा
- (3) बहुविधता
- (4) केन्द्रिकता

Options :

54025064837. 1

54025064838. 2

54025064839. 3

54025064840. 4

Question Number : 131 Question Id : 54025016211 Question Type : MCQ Option Shuffling : No Is Question Mandatory : No Calculator : None Response Time : N.A Think Time : N.A Minimum Instruction Time : 0

Correct Marks : 5 Wrong Marks : 1

Question Key Details :

Key	Value
Comprehension	MCQ

Identify the sequence of activities that LaPiere an American Social Psychologist used to understand attitude behaviour relationship.

- (A) A questionnaire was sent to managers asking if they would give accommodation to Chinese guests.
- (B) Many Hotels and Tourist Homes in United States said they will not give accommodation to Chinese
- (C) La-Piere asked a Chinese couple to travel across United State and stay in different hotels
- (D) The hotel staff gave accommodation to Chinese couple
- (E) Only once during these occasions the Chinese couple were refused service by one of the hotels

Choose the **correct** answer from the options given below :

- (1) (C), (E), (D), (B), (A)
- (2) (A), (B), (D), (E), (C)
- (3) (B), (A), (E), (D), (C)
- (4) (C), (D), (E), (A), (B)

Options :

54025064841. 1

54025064842. 2

54025064843. 3

54025064844. 4

Question Number : 131 Question Id : 54025016211 Question Type : MCQ Option Shuffling : No

Is Question Mandatory : No Calculator : None Response Time : N.A Think Time : N.A

Minimum Instruction Time : 0

Correct Marks : 5 Wrong Marks : 1

Question Key Details :

Key	Value
Comprehension	MCQ

उन गतिविधियों का क्रम पहचानें जिन्हें एक अमरीकी मनोवैज्ञानिक ला पियर ने अभिवृत्ति-व्यवहार संबंध को समझने के लिए उपयोग किया।

- (A) प्रबंधको के पास प्रश्नावली भेजी गई थी जिसमें चीनी मेहमानों की आवासीय सुविधा के बारे में पूछा गया।
- (B) अमरीका में बहुत सारे होटलो तथा पर्यटक गृहो ने कहा कि वह चीनी लोगों को आवासीय सुविधा नहीं देंगे।
- (C) ला पियर ने एक चीनी दम्पति से कहा कि वह अमरीका का भ्रमण करें तथा भिन्न-भिन्न होटलों में रहें
- (D) होटल स्टाफ ने चीनी दम्पति को आवासीय सुविधा दी
- (E) इस दौरान केवल एक बार चीनी दम्पति को किसी एक होटल ने सुविधाएँ देने से मना किया

नीचे दिए गए विकल्पों में से **सही उत्तर** का चयन कीजिए :

- (1) (C), (E), (D), (B), (A)
- (2) (A), (B), (D), (E), (C)
- (3) (B), (A), (E), (D), (C)
- (4) (C), (D), (E), (A), (B)

Options :

54025064841. 1

54025064842. 2

54025064843. 3

54025064844. 4

Question Number : 132 Question Id : 54025016212 Question Type : MCQ Option Shuffling : No

Is Question Mandatory : No Calculator : None Response Time : N.A Think Time : N.A

Minimum Instruction Time : 0

Correct Marks : 5 Wrong Marks : 1

Question Key Details :

Key	Value
Comprehension	MCQ

Identify the factors that influence attitude formation.

- (A) Family and School Environment
- (B) Message Characteristics
- (C) Personal Experiences
- (D) Target Characteristic
- (E) Media-related influences

Choose the **correct** answer from the options given below :

- (1) (B), (D), (E) only
- (2) (A), (C), (E) only
- (3) (D) and (E) only
- (4) (C), (D), (E) only

Options :

54025064845. 1

54025064846. 2

54025064847. 3

54025064848. 4

Question Number : 132 Question Id : 54025016212 Question Type : MCQ Option Shuffling : No

Is Question Mandatory : No Calculator : None Response Time : N.A Think Time : N.A

Minimum Instruction Time : 0

Correct Marks : 5 Wrong Marks : 1

Question Key Details :

Key	Value
Comprehension	MCQ

मनोवृत्ति निर्माण को प्रभावित करने वाले कारकों की पहचान करें।

- (A) परिवार तथा विद्यालय का वातावरण
- (B) संदेश की विशेषताएँ
- (C) व्यक्तिगत अनुभव
- (D) लक्ष्य विशेषताएँ
- (E) मीडिया संबंधित प्रभाव

नीचे दिए गए विकल्पों में से **सही उत्तर** का चयन कीजिए :

- (1) केवल (B), (D), (E)
- (2) केवल (A), (C), (E)
- (3) केवल (D) और (E)
- (4) केवल (C), (D), (E)

Options :

54025064845. 1

54025064846. 2

54025064847. 3

54025064848. 4

Question Number : 133 Question Id : 54025016213 Question Type : MCQ Option Shuffling : No

Is Question Mandatory : No Calculator : None Response Time : N.A Think Time : N.A

Minimum Instruction Time : 0

Correct Marks : 5 Wrong Marks : 1

Question Key Details :

Key	Value
Comprehension	MCQ

Match List - I with List - II.

List - I	List - II
Example	Concept
(A) Raghav making inferences about the personal qualities of people	(I) Attribution
(B) Sheena assigns causes to peoples behaviour shown in specific social situation	(II) Attitude
(C) Ram's performance improves with the presence of people	(III) Impression Formation
(D) Gita loves Yoga as she believes that it is good for her & therefore practices it every day	(IV) Social Facilitation

Choose the **correct** answer from the options given below :

- (1) (A)-(III), (B)-(I), (C)-(IV), (D)-(II)
- (2) (A)-(II), (B)-(III), (C)-(I), (D)-(IV)
- (3) (A)-(IV), (B)-(II), (C)-(III), (D)-(I)
- (4) (A)-(I), (B)-(II), (C)-(III), (D)-(IV)

Options :

54025064849. 1

54025064850. 2

54025064851. 3

54025064852. 4

Question Number : 133 Question Id : 54025016213 Question Type : MCQ Option Shuffling : No

Is Question Mandatory : No Calculator : None Response Time : N.A Think Time : N.A

Minimum Instruction Time : 0

Correct Marks : 5 Wrong Marks : 1

Question Key Details :

Key	Value
Comprehension	MCQ

सूची-I से सूची-II का मिलान कीजिए:

सूची-I

उदाहरण

- (A) राघव लोगों के व्यक्तिगत गुणों का अनुमान लगाता है
- (B) शीना, विशिष्ट सामाजिक परिस्थितियों में लोगों का व्यवहार का गुणरोपण करी है।
- (C) लोगों की उपस्थिति में राम की योग्यता में सुधार होता है
- (D) गीता योगा को पसंद करती है तथा उसे विश्वास है कि यह उसके लिए अच्छा है इसलिए वह प्रतिदिन इसका अभ्यास करती है।

सूची-II

अवधारणा

- (I) गुणारोपण
- (II) अभिवृत्ति
- (III) छवि निर्माण
- (IV) सामाजिक सुगमीकरण

नीचे दिए गए विकल्पों में से सही उत्तर का चयन कीजिए :

- (1) (A)-(III), (B)-(I), (C)-(IV), (D)-(II)
- (2) (A)-(II), (B)-(III), (C)-(I), (D)-(IV)
- (3) (A)-(IV), (B)-(II), (C)-(III), (D)-(I)
- (4) (A)-(I), (B)-(II), (C)-(III), (D)-(IV)

Options :

54025064849. 1

54025064850. 2

54025064851. 3

54025064852. 4

Question Number : 134 Question Id : 54025016214 Question Type : MCQ Option Shuffling : No

Is Question Mandatory : No Calculator : None Response Time : N.A Think Time : N.A

Minimum Instruction Time : 0

Correct Marks : 5 Wrong Marks : 1

Question Key Details :

Key	Value
Comprehension	MCQ

The class teacher has asked a group of students to prepare for a presentation on the occasion of "Earth Day" for the class. Among the group members two to three students have put their time and effort for the presentation. On the final day of presentation the entire team stood together. Identify the reason for the members, not putting equal amount of efforts in the preparation of the presentation.

- (1) Group think
- (2) Group Polarisation
- (3) Social Loafing
- (4) Cohesiveness

Options :

54025064853. 1

54025064854. 2

54025064855. 3

54025064856. 4

Question Number : 134 Question Id : 54025016214 Question Type : MCQ Option Shuffling : No

Is Question Mandatory : No Calculator : None Response Time : N.A Think Time : N.A

Minimum Instruction Time : 0

Correct Marks : 5 Wrong Marks : 1

Question Key Details :

Key	Value
Comprehension	MCQ

'पृथ्वी दिवस' के उपलक्ष्य में कक्षा अध्यापिका ने अपनी कक्षा के एक समूह को प्रस्तुतीकरण तैयार करने के लिए कहा। समूह के सदस्यों में से केवल दो या तीन छात्रों ने अपना समय तथा प्रयास उस प्रस्तुतीकरण के लिए दिए। प्रस्तुतीकरण के अंतिम दिन सभी विद्यार्थी पूर्ण दल के रूप में वहाँ खड़े हो गए। समूह के सदस्यों के उन कारणों को पहचानिए, जिसके द्वारा यह पता चले कि उन्होंने प्रस्तुतीकरण में बराबर का सहयोग नहीं दिया।

- (1) समूह चिंतन
- (2) समूह ध्रुवीकरण
- (3) सामाजिक स्वैराचार
- (4) एकजुटता

Options :

54025064853. 1

54025064854. 2

54025064855. 3

54025064856. 4

Question Number : 135 Question Id : 54025016215 Question Type : MCQ Option Shuffling : No

Is Question Mandatory : No Calculator : None Response Time : N.A Think Time : N.A

Minimum Instruction Time : 0

Correct Marks : 5 Wrong Marks : 1

Question Key Details :

Key	Value
Comprehension	MCQ

A collection of people gathered together to watch a comedy show is an example of :

- (1) Team
- (2) Crowd
- (3) Audience
- (4) Mob

Options :

54025064857. 1

54025064858. 2

54025064859. 3

54025064860. 4

Question Number : 135 Question Id : 54025016215 Question Type : MCQ Option Shuffling : No

Is Question Mandatory : No Calculator : None Response Time : N.A Think Time : N.A

Minimum Instruction Time : 0

Correct Marks : 5 Wrong Marks : 1

Question Key Details :

Key	Value
Comprehension	MCQ

लोगों के समूह का एक हास्य नाटक देखने के लिए इकट्ठा, होना निम्न में से किसका उदाहरण है?

- (1) दल
- (2) भीड़
- (3) श्रोतागण
- (4) असंयत भीड़

Options :

54025064857. 1

54025064858. 2

54025064859. 3

54025064860. 4

Question Number : 136 Question Id : 54025016216 Question Type : MCQ Option Shuffling : No

Is Question Mandatory : No Calculator : None Response Time : N.A Think Time : N.A

Minimum Instruction Time : 0

Correct Marks : 5 Wrong Marks : 1

Question Key Details :

Key	Value
Comprehension	MCQ

Identify the correct developmental sequence in the formation of a group, as given by Tuckman.

- (A) Forming → Storming → Adjourning → Performing → Norming
- (B) Forming → Storming → Norming → Performing → Adjourning
- (C) Performing → Storming → Norming → Forming → Adjourning
- (D) Performing → Adjourning → Storming → Norming → Forming

Choose the **correct** answer from the options given below :

- (1) (A)
- (2) (C)
- (3) (D)
- (4) (B)

Options :

54025064861. 1

54025064862. 2

54025064863. 3

54025064864. 4

Question Number : 136 Question Id : 54025016216 Question Type : MCQ Option Shuffling : No

Is Question Mandatory : No Calculator : None Response Time : N.A Think Time : N.A

Minimum Instruction Time : 0

Correct Marks : 5 Wrong Marks : 1

Question Key Details :

Key	Value
Comprehension	MCQ

टकमन द्वारा दिए गए समूह के निर्माण के विकासात्मक क्रम की सही पहचान कीजिए।

- (A) निर्माण → झँझावत होना → समापन → निष्पादन करना → मानक निर्माण
- (B) निर्माण → झँझावत होना → मानक निर्माण → निष्पादन करना → समापन
- (C) निष्पादन करना → झँझावत होना → मानक निर्माण → निर्माण → समापन
- (D) निष्पादन करना → समापन → झँझावत होना → मानक निर्माण → निर्माण

नीचे दिए गए विकल्पों में से सही उत्तर का चयन कीजिए :

- (1) (A)
- (2) (C)
- (3) (D)
- (4) (B)

Options :

54025064861. 1

54025064862. 2

54025064863. 3

54025064864. 4

Question Number : 137 Question Id : 54025016217 Question Type : MCQ Option Shuffling : No

Is Question Mandatory : No Calculator : None Response Time : N.A Think Time : N.A

Minimum Instruction Time : 0

Correct Marks : 5 Wrong Marks : 1

Question Key Details :

Key	Value
Comprehension	MCQ

With reference to the reasons for group polarisation among like-minded people choose the **correct** statements.

- (A) Group polarisation occurs as they feel that their perspective is validated by the public
- (B) Group polarisation occurs as they start identifying with each other after perceiving them as a group
- (C) Group polarisation occurs as they have a heterogenous thought process
- (D) Group polarisation occurs as a result of group discussion which strengthens one's initial position
- (E) Group polarisation occurs as a result of pessimistic attitude towards own self

Choose the **correct** answer from the options given below :

- (1) (A), (C), (E) only
- (2) (A), (B), (D) only
- (3) (B), (D), (E) only
- (4) (C), (D), (E) only

Options :

54025064865. 1

54025064866. 2

54025064867. 3

54025064868. 4

Question Number : 137 Question Id : 54025016217 Question Type : MCQ Option Shuffling : No

Is Question Mandatory : No Calculator : None Response Time : N.A Think Time : N.A

Minimum Instruction Time : 0

Correct Marks : 5 Wrong Marks : 1

Question Key Details :

Key	Value
-----	-------

समान सोच के लोगों के समूह ध्रुवीकरण के संदर्भ के कारणों को ध्यान में रखते हुए सही कथन का चयन कीजिए।

- (A) समूह ध्रुवीकरण तब होता है जब वे महसूस करते हैं कि जनता द्वारा उनके दृष्टिकोण को वैध मानती है
- (B) समूह ध्रुवीकरण तब होता है जब समान विचार के व्यक्तियों को देखते हैं तो वह उन्हें अंतःसमूह के रूप में गृहण करते हैं
- (C) समूह ध्रुवीकरण तब होता है जब वे विषमांग सोच प्रक्रिया रखते हैं
- (D) समूह ध्रुवीकरण तब होता है जब समूह में विचार-विमर्श द्वारा किसी व्यक्ति की प्रारम्भिक स्थिति प्रबल होती है।
- (E) समूह ध्रुवीकरण तब होता है जब वह स्वयं के प्रति निराशावादी दृष्टिकोण रखते हैं

नीचे दिए गए विकल्पों में से सही उत्तर का चयन कीजिए :

- (1) केवल (A), (C), (E)
- (2) केवल (A), (B), (D)
- (3) केवल (B), (D), (E)
- (4) केवल (C), (D), (E)

Options :

54025064865. 1

54025064866. 2

54025064867. 3

54025064868. 4

Question Number : 138 Question Id : 54025016218 Question Type : MCQ Option Shuffling : No

Is Question Mandatory : No Calculator : None Response Time : N.A Think Time : N.A

Minimum Instruction Time : 0

Correct Marks : 5 Wrong Marks : 1

Question Key Details :

Key	Value
Comprehension	MCQ

When a criminal beats up a person in the community for mentioning his name to the police he is demonstrating :

- (1) Instrumental aggression
- (2) Hostile aggression
- (3) Verbal aggression
- (4) Pro-active aggression

Options :

54025064869. 1

54025064870. 2

54025064871. 3

54025064872. 4

Question Number : 138 Question Id : 54025016218 Question Type : MCQ Option Shuffling : No

Is Question Mandatory : No Calculator : None Response Time : N.A Think Time : N.A

Minimum Instruction Time : 0

Correct Marks : 5 Wrong Marks : 1

Question Key Details :

Key	Value
Comprehension	MCQ

जब कोई अपराधी समुदाय में किसी व्यक्ति को पीटता है क्योंकि उस व्यक्ति ने पुलिस के सामने उसका नाम लिया है तब वह क्या प्रदर्शित करता है :

- (1) नैमित्तिक आक्रमण
- (2) शत्रुतापूर्ण आक्रमण
- (3) शाब्दिक आक्रमण
- (4) अग्रलक्षी आक्रमण

Options :

54025064869. 1

54025064870. 2

54025064871. 3

54025064872. 4

Question Number : 139 Question Id : 54025016219 Question Type : MCQ Option Shuffling : No Is Question Mandatory : No Calculator : None Response Time : N.A Think Time : N.A Minimum Instruction Time : 0

Correct Marks : 5 Wrong Marks : 1

Question Key Details :

Key	Value
Comprehension	MCQ

Arrange in sequence the four kinds of interpersonal physical distance from closest to distant/farthest.

- (A) Social distance
- (B) Personal distance
- (C) Intimate distance
- (D) Public distance

Choose the **correct** answer from the options given below :

- (1) (C), (B), (A), (D)
- (2) (B), (C), (A), (D)
- (3) (B), (C), (D), (A)
- (4) (C), (A), (B), (D)

Options :

54025064873. 1

54025064874. 2

54025064875. 3

54025064876. 4

Question Number : 139 Question Id : 54025016219 Question Type : MCQ Option Shuffling : No Is Question Mandatory : No Calculator : None Response Time : N.A Think Time : N.A Minimum Instruction Time : 0

Correct Marks : 5 Wrong Marks : 1

Question Key Details :

Key	Value
-----	-------

अंतर्व्यक्तिव भौतिक दूरी के चारों प्रकारों को समीप से दूर तक के क्रम में व्यवस्थित करें।

- (A) सामाजिक दूरी
- (B) व्यक्तिगत दूरी
- (C) अतरंग दूरी
- (D) सार्वजनिक दूरी

नीचे दिए गए विकल्पों में से सही उत्तर का चयन कीजिए :

- (1) (C), (B), (A), (D)
- (2) (B), (C), (A), (D)
- (3) (B), (C), (D), (A)
- (4) (C), (A), (B), (D)

Options :

54025064873. 1

54025064874. 2

54025064875. 3

54025064876. 4

Question Number : 140 Question Id : 54025016220 Question Type : MCQ Option Shuffling : No

Is Question Mandatory : No Calculator : None Response Time : N.A Think Time : N.A

Minimum Instruction Time : 0

Correct Marks : 5 Wrong Marks : 1

Question Key Details :

Key	Value
Comprehension	MCQ

Sohna had to take a decision of whether to join her circle of friends, when they smoke or raise her voice against the vicious practice. She was indulging in _____.

- (1) Interpersonal Communication
- (2) Intrapersonal Communication
- (3) Public Communication
- (4) Paraphrasing

Options :

54025064877. 1

54025064878. 2

54025064879. 3

54025064880. 4

Question Number : 140 Question Id : 54025016220 Question Type : MCQ Option Shuffling : No**Is Question Mandatory : No Calculator : None Response Time : N.A Think Time : N.A****Minimum Instruction Time : 0****Correct Marks : 5 Wrong Marks : 1****Question Key Details :**

Key	Value
Comprehension	MCQ

सोहना को यह निर्णय लेना है, कि धूम्रपान या कटु व्यवहार के प्रति आवाज उठाने के लिए। वह अपने मित्रों की मंडली का हिस्सा बनेगी निम्न में से वो क्या कर रही थी :

- (1) अंतर्व्यक्तिमक संप्रेषण
- (2) अंतराव्यक्तिमक संप्रेषण
- (3) सार्वजनिक संप्रेषण
- (4) पुनर्वाक्यविन्यास

Options :

54025064877. 1

54025064878. 2

54025064879. 3

54025064880. 4

Sub-Section Number :

2

Sub-Section Id :

5402501142

Question Shuffling Allowed :

No

Is Section Default? :

null

Question Number : 141 Question Id : 54025016221 Question Type : MCQ Option Shuffling : No

Is Question Mandatory : No Calculator : None Response Time : N.A Think Time : N.A

Minimum Instruction Time : 0

Correct Marks : 5 Wrong Marks : 1

Question Key Details :

Key	Value
Comprehension	Comp1

Read the passage below and answer the following question :

BEHAVIOURAL AND PSYCHOLOGICAL CORRELATES OF ILLNESS : THE EFFECTS OF THOUGHTS AND ACTIONS ON HEALTH

- Cancer is actually a group of diseases characterized by a loss of some cells' ability to function normally. These cells typically multiply rapidly, generating tumours.
- Individual differences in people's reaction to nicotine, the addictive substance in tobacco, help determine who will become a smoker.
- Both smoking and passive smoking are implicated in many cancers, in cardiovascular disease, and in sickness among children. Poor diet can raise our risks of cancer of the colon and rectum, breast cancer, and cardiovascular disease. Heavy drinking can cause disease of the stomach, liver and intestines. It can also impair mental and sexual functioning, and it can result in fetal alcohol syndrome.
- Inadequate emotional expression can adversely affect the progression of cancer. Emotions also affect high blood pressure.
- Persons who tend to be competitive, aggressive, hostile, and impatient are displaying a pattern of behaviours termed Type A. Cynical hostility puts Type A persons most at risk for heart attacks.
- Acquired Immuno Deficiency Syndrome (AIDS) is a reduction in the immune system's ability to defend itself against foreign matter. AIDS is transmitted primarily through unprotected sex and infected blood.

Which cells are attacked by the Human Immuno Deficiency Virus (HIV) causing Acquired Immuno Deficiency Syndrome (AIDS) ?

- (1) B cells
- (2) T-helper cells
- (3) Natural Killer cells
- (4) leucocytes

Options :

54025064881. 1

54025064882. 2

54025064883. 3

54025064884. 4

Question Number : 141 Question Id : 54025016221 Question Type : MCQ Option Shuffling : No

Is Question Mandatory : No Calculator : None Response Time : N.A Think Time : N.A

Minimum Instruction Time : 0

Correct Marks : 5 Wrong Marks : 1

Question Key Details :

Key	Value
Comprehension	Comp1

निम्नलिखित अनुच्छेद को पढ़िये और दिये गए प्रश्न के उत्तर दीजिए :

रोग के व्यवहारिक एवं मनोवैज्ञानिक संबंध : स्वास्थ्य पर विचारों और कार्यों का प्रभाव

- कैंसर वास्तव में रोगों का एक समूह है जिसको कुछ कोशिकाओं की सामान्य रूप से कार्य कर पाने की योग्यता में ह्रास के रूप में दर्शाया जाता है। ये कोशिकाएं सामान्यतः तेजी से गुणित होती और ट्यूमर पैदा करती हैं।
- निकोटिन, तंबाकू में नशीला पदार्थ के प्रति लोगों की अनुक्रिया में व्यक्तिगत विभेद यह निर्धारित करते हैं कि कौन धूम्रपान करने वाला बनेगा।
- धूम्रपान और निष्क्रिय धूम्रपान दोनों ही कई तरह के कैंसर, हृदय रोग और बच्चों की बीमारियों में शामिल हैं। खराब खानपान कोलन और मलाशय के कैंसर, स्तन कैंसर और हृदय रोग के जोखिम को बढ़ाता है। बहुत अधिक मद्यपान पेट, यकृत और आंतों के रोग का कारण बन सकता है। यह मानसिक और यौन क्रियात्मकता को भी क्षति पहुँचा सकता है तथा इसका परिणाम भ्रूण मद्य सिंड्रोम होता है।
- अपर्याप्त भावात्मक अभिव्यक्ति कैंसर की प्रगति को नकारात्मक रूप से प्रभावित कर सकती है। संवेग उच्च रक्त चाप को भी प्रभावित करते हैं।
- वे लोग जो प्रतिस्पर्धी, आक्रामक विरोधी और अधीर होते हैं टाइप A प्रकार के व्यवहार प्रतिरूपों को प्रदर्शित करते हैं। द्वेषपूर्ण शत्रुता टाइप A प्रकार के लोगों को हृदयाघात के अधिक जोखिम पर रखती हैं।
- Acquired Immuno Deficiency Syndrome (AIDS) प्रतिरोधी तंत्र की बाहरी आघातों से प्रतिरोध क्षमता में ह्रास है। AIDS मुख्य रूप से असुरक्षित यौन संबंध और दूषित रक्त से संचारित होता है।

कौन-सी कोशिकाओं पर ह्यूमन इम्यूनो डेफिशियंसी वायरस द्वारा आक्रमण किया जाता है जिसका परिणाम एक्वायरड इम्यूनो डेफिशियंसी सिंड्रोम (AIDS) होता है?

- (1) B कोशिकाएं
- (2) T-सहायक कोशिकाएँ
- (3) प्राकृतिक रूप से नष्ट करने वाली कोशिकाएँ
- (4) श्वेताणु

Options :

54025064881. 1

54025064882. 2

54025064883. 3

54025064884. 4

Is Question Mandatory : No Calculator : None Response Time : N.A Think Time : N.A

Minimum Instruction Time : 0

Correct Marks : 5 Wrong Marks : 1

Question Key Details :

Key	Value
Comprehension	Comp1

Read the passage below and answer the following question :

BEHAVIOURAL AND PSYCHOLOGICAL CORRELATES OF ILLNESS : THE EFFECTS OF THOUGHTS AND ACTIONS ON HEALTH

- Cancer is actually a group of diseases characterized by a loss of some cells' ability to function normally. These cells typically multiply rapidly, generating tumours.
- Individual differences in people's reaction to nicotine, the addictive substance in tobacco, help determine who will become a smoker.
- Both smoking and passive smoking are implicated in many cancers, in cardiovascular disease, and in sickness among children. Poor diet can raise our risks of cancer of the colon and rectum, breast cancer, and cardiovascular disease. Heavy drinking can cause disease of the stomach, liver and intestines. It can also impair mental and sexual functioning, and it can result in fetal alcohol syndrome.
- Inadequate emotional expression can adversely affect the progression of cancer. Emotions also affect high blood pressure.
- Persons who tend to be competitive, aggressive, hostile, and impatient are displaying a pattern of behaviours termed Type A. Cynical hostility puts Type A persons most at risk for heart attacks.
- Acquired Immuno Deficiency Syndrome (AIDS) is a reduction in the immune system's ability to defend itself against foreign matter. AIDS is transmitted primarily through unprotected sex and infected blood.

_____ can affect natural killer cell cytotoxicity which is important in the defence against various infections and cancer.

- (1) Perception
- (2) Emotions
- (3) Stress
- (4) Infection

Options :

54025064885. 1

54025064886. 2

54025064887. 3

54025064888. 4

Question Number : 142 Question Id : 54025016222 Question Type : MCQ Option Shuffling : No

Is Question Mandatory : No Calculator : None Response Time : N.A Think Time : N.A

Minimum Instruction Time : 0

Correct Marks : 5 Wrong Marks : 1

Question Key Details :

Key	Value
Comprehension	Comp1

निम्नलिखित अनुच्छेद को पढ़िये और दिये गए प्रश्न के उत्तर दीजिए :

रोग के व्यवहारिक एवं मनोवैज्ञानिक संबंध : स्वास्थ्य पर विचारों और कार्यों का प्रभाव

- कैंसर वास्तव में रोगों का एक समूह है जिसको कुछ कोशिकाओं की सामान्य रूप से कार्य कर पाने की योग्यता में ह्रास के रूप में दर्शाया जाता है। ये कोशिकाएं सामान्यतः तेजी से गुणित होती और ट्यूमर पैदा करती हैं।
- निकोटिन, तंबाकू में नशीला पदार्थ के प्रति लोगों की अनुक्रिया में व्यक्तिगत विभेद यह निर्धारित करते हैं कि कौन धूम्रपान करने वाला बनेगा।
- धूम्रपान और निष्क्रिय धूम्रपान दोनों ही कई तरह के कैंसर, हृदय रोग और बच्चों की बीमारियों में शामिल हैं। खराब खानपान कोलन और मलाशय के कैंसर, स्तन कैंसर और हृदय रोग के जोखिम को बढ़ाता है। बहुत अधिक मद्यपान पेट, यकृत और आंतों के रोग का कारण बन सकता है। यह मानसिक और यौन क्रियात्मकता को भी क्षति पहुँचा सकता है तथा इसका परिणाम भ्रूण मद्य सिंड्रोम होता है।
- अपर्याप्त भावात्मक अभिव्यक्ति कैंसर की प्रगति को नकारात्मक रूप से प्रभावित कर सकती है। संवेग उच्च रक्त चाप को भी प्रभावित करते हैं।
- वे लोग जो प्रतिस्पर्धी, आक्रामक विरोधी और अधीर होते हैं टाइप A प्रकार के व्यवहार प्रतिकारकों को प्रदर्शित करते हैं। द्वेषपूर्ण शत्रुता टाइप A प्रकार के लोगों को हृदयाघात के अधिक जोखिम पर रखती है।
- Acquired Immuno Deficiency Syndrome (AIDS) प्रतिरोधी तंत्र की बाहरी आघातों से प्रतिरोध क्षमता में ह्रास है। AIDS मुख्य रूप से असुरक्षित यौन संबंध और दूषित रक्त से संचारित होता है।

_____ प्राकृतिक रूप से नष्ट करने वाली कोशिकाओं की कोशिका विषाक्तता को प्रभावित कर सकता है जो कि विभिन्न संक्रमणों एवं कैंसर के प्रतिरोध हेतु महत्वपूर्ण है।

- (1) प्रत्यक्ष
- (2) संवेग
- (3) दबाव
- (4) संक्रमण

Options :

54025064885. 1
54025064886. 2
54025064887. 3
54025064888. 4

Is Question Mandatory : No Calculator : None Response Time : N.A Think Time : N.A

Minimum Instruction Time : 0

Correct Marks : 5 Wrong Marks : 1

Question Key Details :

Key	Value
Comprehension	Comp1

Read the passage below and answer the following question :

BEHAVIOURAL AND PSYCHOLOGICAL CORRELATES OF ILLNESS : THE EFFECTS OF THOUGHTS AND ACTIONS ON HEALTH

- Cancer is actually a group of diseases characterized by a loss of some cells' ability to function normally. These cells typically multiply rapidly, generating tumours.
- Individual differences in people's reaction to nicotine, the addictive substance in tobacco, help determine who will become a smoker.
- Both smoking and passive smoking are implicated in many cancers, in cardiovascular disease, and in sickness among children. Poor diet can raise our risks of cancer of the colon and rectum, breast cancer, and cardiovascular disease. Heavy drinking can cause disease of the stomach, liver and intestines. It can also impair mental and sexual functioning, and it can result in fetal alcohol syndrome.
- Inadequate emotional expression can adversely affect the progression of cancer. Emotions also affect high blood pressure.
- Persons who tend to be competitive, aggressive, hostile, and impatient are displaying a pattern of behaviours termed Type A. Cynical hostility puts Type A persons most at risk for heart attacks.
- Acquired Immuno Deficiency Syndrome (AIDS) is a reduction in the immune system's ability to defend itself against foreign matter. AIDS is transmitted primarily through unprotected sex and infected blood.

Psychoneuroimmunology focuses on the links between the mind, the _____ and the immune system.

- (1) cells
- (2) brain
- (3) blood
- (4) heart

Options :

54025064889. 1

54025064890. 2

54025064891. 3

54025064892. 4

Question Number : 143 Question Id : 54025016223 Question Type : MCQ Option Shuffling : No

Is Question Mandatory : No Calculator : None Response Time : N.A Think Time : N.A

Minimum Instruction Time : 0

Correct Marks : 5 Wrong Marks : 1

Question Key Details :

Key	Value
Comprehension	Comp1

निम्नलिखित अनुच्छेद को पढ़िये और दिये गए प्रश्न के उत्तर दीजिए :

रोग के व्यवहारिक एवं मनोवैज्ञानिक संबंध : स्वास्थ्य पर विचारों और कार्यों का प्रभाव

- कैंसर वास्तव में रोगों का एक समूह है जिसको कुछ कोशिकाओं की सामान्य रूप से कार्य कर पाने की योग्यता में ह्रास के रूप में दर्शाया जाता है। ये कोशिकाएं सामान्यतः तेजी से गुणित होती और ट्यूमर पैदा करती हैं।
- निकोटिन, तंबाकू में नशीला पदार्थ के प्रति लोगों की अनुक्रिया में व्यक्तिगत विभेद यह निर्धारित करते हैं कि कौन धूम्रपान करने वाला बनेगा।
- धूम्रपान और निष्क्रिय धूम्रपान दोनों ही कई तरह के कैंसर, हृदय रोग और बच्चों की बीमारियों में शामिल हैं। खराब खानपान कोलन और मलाशय के कैंसर, स्तन कैंसर और हृदय रोग के जोखिम को बढ़ाता है। बहुत अधिक मद्यपान पेट, यकृत और आंतों के रोग का कारण बन सकता है। यह मानसिक और यौन क्रियात्मकता को भी क्षति पहुँचा सकता है तथा इसका परिणाम भ्रूण मद्य सिंड्रोम होता है।
- अपर्याप्त भावात्मक अभिव्यक्ति कैंसर की प्रगति को नकारात्मक रूप से प्रभावित कर सकती है। संवेग उच्च रक्त चाप को भी प्रभावित करते हैं।
- वे लोग जो प्रतिस्पर्धी, आक्रामक विरोधी और अधीर होते हैं टाइप A प्रकार के व्यवहार प्रतिरूपों को प्रदर्शित करते हैं। द्वेषपूर्ण शत्रुता टाइप A प्रकार के लोगों को हृदयाघात के अधिक जोखिम पर रखती हैं।
- Acquired Immuno Deficiency Syndrome (AIDS) प्रतिरोधी तंत्र की बाहरी आघातों से प्रतिरोध क्षमता में ह्रास है। AIDS मुख्य रूप से असुरक्षित यौन संबंध और दूषित रक्त से संचारित होता है।

मनस्तंत्रिका रोग प्रतिरक्षा विज्ञान मन, _____ और प्रतिरक्षा तंत्र के मध्य संबंध पर केंद्रित होता है।

- (1) कोशिका
- (2) मस्तिष्क
- (3) रक्त
- (4) हृदय

Options :

54025064889. 1

54025064890. 2

54025064891. 3

54025064892. 4

Question Number : 144 Question Id : 54025016224 Question Type : MCQ Option Shuffling : No

Is Question Mandatory : No Calculator : None Response Time : N.A Think Time : N.A

Minimum Instruction Time : 0

Correct Marks : 5 Wrong Marks : 1

Question Key Details :

Key	Value
Comprehension	Comp1

Read the passage below and answer the following question :

BEHAVIOURAL AND PSYCHOLOGICAL CORRELATES OF ILLNESS : THE EFFECTS OF THOUGHTS AND ACTIONS ON HEALTH

- Cancer is actually a group of diseases characterized by a loss of some cells' ability to function normally. These cells typically multiply rapidly, generating tumours.
- Individual differences in people's reaction to nicotine, the addictive substance in tobacco, help determine who will become a smoker.
- Both smoking and passive smoking are implicated in many cancers, in cardiovascular disease, and in sickness among children. Poor diet can raise our risks of cancer of the colon and rectum, breast cancer, and cardiovascular disease. Heavy drinking can cause disease of the stomach, liver and intestines. It can also impair mental and sexual functioning, and it can result in fetal alcohol syndrome.
- Inadequate emotional expression can adversely affect the progression of cancer. Emotions also affect high blood pressure.
- Persons who tend to be competitive, aggressive, hostile, and impatient are displaying a pattern of behaviours termed Type A. Cynical hostility puts Type A persons most at risk for heart attacks.
- Acquired Immuno Deficiency Syndrome (AIDS) is a reduction in the immune system's ability to defend itself against foreign matter. AIDS is transmitted primarily through unprotected sex and infected blood.

Individuals who suppress their negative emotions are unassertive and show compliance to authority, are prone to cancer and are classified as _____ personality.

- (1) Type - A
- (2) Type - B
- (3) Type - C
- (4) Type - D

Options :

54025064893. 1

54025064894. 2

54025064895. 3

54025064896. 4

Question Number : 144 Question Id : 54025016224 Question Type : MCQ Option Shuffling : No

Is Question Mandatory : No Calculator : None Response Time : N.A Think Time : N.A

Minimum Instruction Time : 0

Correct Marks : 5 Wrong Marks : 1

Question Key Details :

Key	Value
Comprehension	Comp1

निम्नलिखित अनुच्छेद को पढ़िये और दिये गए प्रश्न के उत्तर दीजिए :

रोग के व्यवहारिक एवं मनोवैज्ञानिक संबंध : स्वास्थ्य पर विचारों और कार्यों का प्रभाव

- कैंसर वास्तव में रोगों का एक समूह है जिसको कुछ कोशिकाओं की सामान्य रूप से कार्य कर पाने की योग्यता में ह्रास के रूप में दर्शाया जाता है। ये कोशिकाएं सामान्यतः तेजी से गुणित होती और ट्यूमर पैदा करती हैं।
- निकोटिन, तंबाकू में नशीला पदार्थ के प्रति लोगों की अनुक्रिया में व्यक्तिगत विभेद यह निर्धारित करते हैं कि कौन धूम्रपान करने वाला बनेगा।
- धूम्रपान और निष्क्रिय धूम्रपान दोनों ही कई तरह के कैंसर, हृदय रोग और बच्चों की बीमारियों में शामिल हैं। खराब खानपान कोलन और मलाशय के कैंसर, स्तन कैंसर और हृदय रोग के जोखिम को बढ़ाता है। बहुत अधिक मद्यपान पेट, यकृत और आंतों के रोग का कारण बन सकता है। यह मानसिक और यौन क्रियात्मकता को भी क्षति पहुँचा सकता है तथा इसका परिणाम भ्रूण मद्य सिंड्रोम होता है।
- अपर्याप्त भावात्मक अभिव्यक्ति कैंसर की प्रगति को नकारात्मक रूप से प्रभावित कर सकती है। संवेग उच्च रक्त चाप को भी प्रभावित करते हैं।
- वे लोग जो प्रतिस्पर्धी, आक्रामक विरोधी और अधीर होते हैं टाइप A प्रकार के व्यवहार प्रतिरूपों को प्रदर्शित करते हैं। द्वेषपूर्ण शत्रुता टाइप A प्रकार के लोगों को हृदयाघात के अधिक जोखिम पर रखती हैं।
- Acquired Immuno Deficiency Syndrome (AIDS) प्रतिरोधी तंत्र की बाहरी आघातों से प्रतिरोध क्षमता में ह्रास है। AIDS मुख्य रूप से असुरक्षित यौन संबंध और दूषित रक्त से संचारित होता है।

वे व्यक्ति जो अपने नकारात्मक संवेगों को दबाते हैं अदृढ़ होते हैं और सत्ता का अनुपालन दर्शाते हैं उनको कैंसर होने की संभावना होती है और उन्हें _____ व्यक्तित्व में वर्गीकृत किया जाता है।

- (1) टाइप - A
- (2) टाइप - B
- (3) टाइप - C
- (4) टाइप - D

Options :

54025064893. 1
54025064894. 2
54025064895. 3
54025064896. 4

Is Question Mandatory : No Calculator : None Response Time : N.A Think Time : N.A

Minimum Instruction Time : 0

Correct Marks : 5 Wrong Marks : 1

Question Key Details :

Key	Value
Comprehension	Comp1

Read the passage below and answer the following question :

BEHAVIOURAL AND PSYCHOLOGICAL CORRELATES OF ILLNESS : THE EFFECTS OF THOUGHTS AND ACTIONS ON HEALTH

- Cancer is actually a group of diseases characterized by a loss of some cells' ability to function normally. These cells typically multiply rapidly, generating tumours.
- Individual differences in people's reaction to nicotine, the addictive substance in tobacco, help determine who will become a smoker.
- Both smoking and passive smoking are implicated in many cancers, in cardiovascular disease, and in sickness among children. Poor diet can raise our risks of cancer of the colon and rectum, breast cancer, and cardiovascular disease. Heavy drinking can cause disease of the stomach, liver and intestines. It can also impair mental and sexual functioning, and it can result in fetal alcohol syndrome.
- Inadequate emotional expression can adversely affect the progression of cancer. Emotions also affect high blood pressure.
- Persons who tend to be competitive, aggressive, hostile, and impatient are displaying a pattern of behaviours termed Type A. Cynical hostility puts Type A persons most at risk for heart attacks.
- Acquired Immuno Deficiency Syndrome (AIDS) is a reduction in the immune system's ability to defend itself against foreign matter. AIDS is transmitted primarily through unprotected sex and infected blood.

Increased intake of addictive substance like nicotine tobacco and alcohol due to stress is a/an _____ effect of stress on psychological functioning and health.

- (1) Emotional
- (2) Physiological
- (3) Cognitive
- (4) Behavioural

Options :

54025064897. 1

54025064898. 2

54025064899. 3

54025064900. 4

Question Number : 145 Question Id : 54025016225 Question Type : MCQ Option Shuffling : No

Is Question Mandatory : No Calculator : None Response Time : N.A Think Time : N.A

Minimum Instruction Time : 0

Correct Marks : 5 Wrong Marks : 1

Question Key Details :

Key	Value
Comprehension	Comp1

निम्नलिखित अनुच्छेद को पढ़िये और दिये गए प्रश्न के उत्तर दीजिए :

रोग के व्यवहारिक एवं मनोवैज्ञानिक संबंध : स्वास्थ्य पर विचारों और कार्यों का प्रभाव

- कैंसर वास्तव में रोगों का एक समूह है जिसको कुछ कोशिकाओं की सामान्य रूप से कार्य कर पाने की योग्यता में ह्रास के रूप में दर्शाया जाता है। ये कोशिकाएं सामान्यतः तेजी से गुणित होती और ट्यूमर पैदा करती हैं।
- निकोटिन, तंबाकू में नशीला पदार्थ के प्रति लोगों की अनुक्रिया में व्यक्तिगत विभेद यह निर्धारित करते हैं कि कौन धूम्रपान करने वाला बनेगा।
- धूम्रपान और निष्क्रिय धूम्रपान दोनों ही कई तरह के कैंसर, हृदय रोग और बच्चों की बीमारियों में शामिल हैं। खराब खानपान कोलन और मलाशय के कैंसर, स्तन कैंसर और हृदय रोग के जोखिम को बढ़ाता है। बहुत अधिक मद्यपान पेट, यकृत और आंतों के रोग का कारण बन सकता है। यह मानसिक और यौन क्रियात्मकता को भी क्षति पहुँचा सकता है तथा इसका परिणाम भ्रूण मद्य सिंड्रोम होता है।
- अपर्याप्त भावात्मक अभिव्यक्ति कैंसर की प्रगति को नकारात्मक रूप से प्रभावित कर सकती है। संवेग उच्च रक्त चाप को भी प्रभावित करते हैं।
- वे लोग जो प्रतिस्पर्धी, आक्रामक विरोधी और अधीर होते हैं टाइप A प्रकार के व्यवहार प्रतिरूपों को प्रदर्शित करते हैं। द्वेषपूर्ण शत्रुता टाइप A प्रकार के लोगों को हृदयाघात के अधिक जोखिम पर रखती हैं।
- Acquired Immuno Deficiency Syndrome (AIDS) प्रतिरोधी तंत्र की बाहरी आघातों से प्रतिरोध क्षमता में ह्रास है। AIDS मुख्य रूप से असुरक्षित यौन संबंध और दूषित रक्त से संचारित होता है।

तनाव के कारण मद्यपान, निकोटिन तंबाकू जैसे नशीले पदार्थों का अधिक सेवन, स्वास्थ्य और मनोवैज्ञानिक क्रियात्मकता पर तनाव का _____ प्रभाव है।

- (1) सांवेगिक
- (2) दैहिक
- (3) संज्ञानात्मक
- (4) व्यवहारिक

Options :

54025064897. 1
54025064898. 2
54025064899. 3
54025064900. 4

Sub-Section Number :

3

Sub-Section Id :

5402501143

Question Shuffling Allowed :

No

Is Section Default? :

null

Question Number : 146 Question Id : 54025016226 Question Type : MCQ Option Shuffling : No

Is Question Mandatory : No Calculator : None Response Time : N.A Think Time : N.A

Minimum Instruction Time : 0

Correct Marks : 5 Wrong Marks : 1

Question Key Details :

Key	Value
Comprehension	Comp2

Read the passage and answer the question follow :

Brijesh is 25 years old autorickshaw driver. He has continuous feelings of insecurity and believes that the police in the area is tracking and following him. The patrolling of the police makes him feel that they are monitoring his behaviour minutely. The intense anxiety about this is interfering with his work and relationship and his family and friends are all worried for him. Brijesh laughs abruptly and inappropriately and sometimes stops speaking mid sentence and stares into nothingness as he appears to see or hear something that is not present.

Identify the symptom Brijesh is showing :

- (1) Positive symptoms
- (2) Negative symptoms
- (3) Both Positive and Negative symptoms
- (4) Psychomotor symptoms

Options :

54025064901. 1

54025064902. 2

54025064903. 3

54025064904. 4

Question Number : 146 Question Id : 54025016226 Question Type : MCQ Option Shuffling : No

Is Question Mandatory : No Calculator : None Response Time : N.A Think Time : N.A

Minimum Instruction Time : 0

Correct Marks : 5 Wrong Marks : 1

Question Key Details :

Key	Value
Comprehension	Comp2

निम्नलिखित अनुच्छेद को पढ़िये और दिये गए प्रश्न के उत्तर दीजिए :

ब्रिजेश 25 वर्ष का ऑटोरिक्षा चालक है। उसे लगातार महसूस और विश्वास होता है कि उस क्षेत्र की पुलिस उस पर नजर रखती है तथा उसका पीछा करती है। पुलिस की गश्त से उसे यह महसूस होता है कि उसके व्यवहार पर बारीकी से नजर रखी जा रही है। उसके इस गंभीर भय के कारण उसके पारिवारिक संबंधों तथा काम में अड़चनें आ रही हैं तथा उसका परिवार और मित्र सभी उसके प्रति चिंताग्रस्त हैं। ब्रिजेश बहुत बार अप्रत्याशित ढंग से तथा अनुपयुक्त तरीके से हंसता है, कभी-कभी बात करते करते रुक जाता है और शून्य में घूरता है जैसे कि उसे कुछ दिखाई और सुनाई दे रहा है जो कि वहाँ उपस्थित नहीं है।

ब्रिजेश के दिखने वाले लक्षण को पहचानिए :

- (1) सकारात्मक लक्षण
- (2) नकारात्मक लक्षण
- (3) दोनों, सकारात्मक तथा नकारात्मक लक्षण
- (4) मन:चलित लक्षण

Options :

54025064901. 1

54025064902. 2

54025064903. 3

54025064904. 4

Question Number : 147 Question Id : 54025016227 Question Type : MCQ Option Shuffling : No

Is Question Mandatory : No Calculator : None Response Time : N.A Think Time : N.A

Minimum Instruction Time : 0

Correct Marks : 5 Wrong Marks : 1

Question Key Details :

Key	Value
Comprehension	Comp2

Read the passage and answer the question follow :

Brijesh is 25 years old autorickshaw driver. He has continuous feelings of insecurity and believes that the police in the area is tracking and following him. The patrolling of the police makes him feel that they are monitoring his behaviour minutely. The intense anxiety about this is interfering with his work and relationship and his family and friends are all worried for him. Brijesh laughs abruptly and inappropriately and sometimes stops speaking mid sentence and stares into nothingness as he appears to see or hear something that is not present.

Identify the reason, Brijesh laughed abruptly and inappropriately :

- (1) due to inappropriate affect
- (2) due to flat affect
- (3) due to blunt affect
- (4) due to avolition

Options :

54025064905. 1

54025064906. 2

54025064907. 3

54025064908. 4

Question Number : 147 Question Id : 54025016227 Question Type : MCQ Option Shuffling : No

Is Question Mandatory : No Calculator : None Response Time : N.A Think Time : N.A

Minimum Instruction Time : 0

Correct Marks : 5 Wrong Marks : 1

Question Key Details :

Key	Value
Comprehension	Comp2

निम्नलिखित अनुच्छेद को पढ़िये और दिये गए प्रश्न के उत्तर दीजिए :

ब्रिजेश 25 वर्ष का ऑटोरिक्षा चालक है। उसे लगातार महसूस और विश्वास होता है कि उस क्षेत्र की पुलिस उस पर नजर रखती है तथा उसका पीछा करती है। पुलिस की गश्त से उसे यह महसूस होता है कि उसके व्यवहार पर बारीकी से नजर रखी जा रही है। उसके इस गंभीर भय के कारण उसके पारिवारिक संबंधों तथा काम में अड़चनें आ रही हैं तथा उसका परिवार और मित्र सभी उसके प्रति चिंताग्रस्त हैं। ब्रिजेश बहुत बार अप्रत्याशित ढंग से तथा अनुपयुक्त तरीके से हंसता है, कभी-कभी बात करते करते रुक जाता है और शून्य में घूरता है जैसे कि उसे कुछ दिखाई और सुनाई दे रहा है जो कि वहाँ उपस्थित नहीं है।

ब्रिजेश के अप्रत्याशित तथा अनुपयुक्त ढंग से हंसने का कारण पहचानिए :

- (1) अनुपयुक्त भाव के कारण
- (2) कुठित भाव के कारण
- (3) विसंगत भाव के कारण
- (4) इच्छा शक्ति न्यूनता

Options :

54025064905. 1

54025064906. 2

54025064907. 3

54025064908. 4

Question Number : 148 Question Id : 54025016228 Question Type : MCQ Option Shuffling : No

Is Question Mandatory : No Calculator : None Response Time : N.A Think Time : N.A

Minimum Instruction Time : 0

Correct Marks : 5 Wrong Marks : 1

Question Key Details :

Key	Value
Comprehension	Comp2

Read the passage and answer the question follow :

Brijesh is 25 years old autorickshaw driver. He has continuous feelings of insecurity and believes that the police in the area is tracking and following him. The patrolling of the police makes him feel that they are monitoring his behaviour minutely. The intense anxiety about this is interfering with his work and relationship and his family and friends are all worried for him. Brijesh laughs abruptly and inappropriately and sometimes stops speaking mid sentence and stares into nothingness as he appears to see or hear something that is not present.

He has continuous feeling of insecurity and believes that the police of that area is tracking and following him. This is related to :

- (1) Hallucination
- (2) Delusion of grandeur
- (3) Delusion of persecution
- (4) Delusion of control

Options :

54025064909. 1

54025064910. 2

54025064911. 3

54025064912. 4

Question Number : 148 Question Id : 54025016228 Question Type : MCQ Option Shuffling : No

Is Question Mandatory : No Calculator : None Response Time : N.A Think Time : N.A

Minimum Instruction Time : 0

Correct Marks : 5 Wrong Marks : 1

Question Key Details :

Key	Value
Comprehension	Comp2

निम्नलिखित अनुच्छेद को पढ़िये और दिये गए प्रश्न के उत्तर दीजिए :

ब्रिजेश 25 वर्ष का ऑटोरिक्षा चालक है। उसे लगातार महसूस और विश्वास होता है कि उस क्षेत्र की पुलिस उस पर नजर रखती है तथा उसका पीछा करती है। पुलिस की गश्त से उसे यह महसूस होता है कि उसके व्यवहार पर बारीकी से नजर रखी जा रही है। उसके इस गंभीर भय के कारण उसके पारिवारिक संबंधों तथा काम में अड़चनें आ रही है तथा उसका परिवार और मित्र सभी उसके प्रति चिंताग्रस्त हैं। ब्रिजेश बहुत बार अप्रत्याशित ढंग से तथा अनुपयुक्त तरीके से हंसता है, कभी-कभी बात करते करते रुक जाता है और शून्य में घूरता है जैसे कि उसे कुछ दिखाई और सुनाई दे रहा है जो कि वहाँ उपस्थित नहीं है। उसे लगातार महसूस और विश्वास होता है कि उस क्षेत्र की पुलिस उस पर नजर रखती है और उसका पीछा करती है। यह किससे संबंधित है :

- (1) विभ्रान्ति
- (2) अत्यहंमन्यता भ्रमासक्ति
- (3) उत्पीड़न भ्रमासक्ति
- (4) नियंत्रण भ्रमासक्ति

Options :

54025064909. 1

54025064910. 2

54025064911. 3

54025064912. 4

Question Number : 149 Question Id : 54025016229 Question Type : MCQ Option Shuffling : No

Is Question Mandatory : No Calculator : None Response Time : N.A Think Time : N.A

Minimum Instruction Time : 0

Correct Marks : 5 Wrong Marks : 1

Question Key Details :

Key	Value
Comprehension	Comp2

Read the passage and answer the question follow :

Brijesh is 25 years old autorickshaw driver. He has continuous feelings of insecurity and believes that the police in the area is tracking and following him. The patrolling of the police makes him feel that they are monitoring his behaviour minutely. The intense anxiety about this is interfering with his work and relationship and his family and friends are all worried for him. Brijesh laughs abruptly and inappropriately and sometimes stops speaking mid sentence and stares into nothingness as he appears to see or hear something that is not present.

Identify the disorder Brijesh is suffering from :

- (1) Generalised anxiety disorder
- (2) Panic disorder
- (3) Schizophrenia spectrum and other psychotic disorder
- (4) Obsessive compulsive and related disorder

Options :

54025064913. 1

54025064914. 2

54025064915. 3

54025064916. 4

Question Number : 149 Question Id : 54025016229 Question Type : MCQ Option Shuffling : No

Is Question Mandatory : No Calculator : None Response Time : N.A Think Time : N.A

Minimum Instruction Time : 0

Correct Marks : 5 Wrong Marks : 1

Question Key Details :

Key	Value
Comprehension	Comp2

निम्नलिखित अनुच्छेद को पढ़िये और दिये गए प्रश्न के उत्तर दीजिए :

ब्रिजेश 25 वर्ष का ऑटोरिक्षा चालक है। उसे लगातार महसूस और विश्वास होता है कि उस क्षेत्र की पुलिस उस पर नजर रखती है तथा उसका पीछा करती है। पुलिस की गश्त से उसे यह महसूस होता है कि उसके व्यवहार पर बारीकी से नजर रखी जा रही है। उसके इस गंभीर भय के कारण उसके पारिवारिक संबंधों तथा काम में अड़चनें आ रही हैं तथा उसका परिवार और मित्र सभी उसके प्रति चिंताग्रस्त हैं। ब्रिजेश बहुत बार अप्रत्याशित ढंग से तथा अनुपयुक्त तरीके से हंसता है, कभी-कभी बात करते करते रुक जाता है और शून्य में घूरता है जैसे कि उसे कुछ दिखाई और सुनाई दे रहा है जो कि वहाँ उपस्थित नहीं है।

ब्रिजेश जिस विकार से ग्रसित है उसे पहचानिए :

- (1) सामान्यीकृत दुश्चिंता विकार
- (2) आतंक विकार
- (3) मनोविदलता वर्णक्रम और अन्य मनोविक्षिप्त विकार
- (4) मनोग्रसित बाध्यता और संबंधित विकार

Options :

54025064913. 1

54025064914. 2

54025064915. 3

54025064916. 4

Question Number : 150 Question Id : 54025016230 Question Type : MCQ Option Shuffling : No

Is Question Mandatory : No Calculator : None Response Time : N.A Think Time : N.A

Minimum Instruction Time : 0

Correct Marks : 5 Wrong Marks : 1

Question Key Details :

Key	Value
Comprehension	Comp2

Read the passage and answer the question follow :

Brijesh is 25 years old autorickshaw driver. He has continuous feelings of insecurity and believes that the police in the area is tracking and following him. The patrolling of the police makes him feel that they are monitoring his behaviour minutely. The intense anxiety about this is interfering with his work and relationship and his family and friends are all worried for him. Brijesh laughs abruptly and inappropriately and sometimes stops speaking mid sentence and stares into nothingness as he appears to see or hear something that is not present.

Identify which one of the following is not a positive symptom of Schizophrenia ?

- (1) Delusion
- (2) Hallucination
- (3) Formal thought disorder
- (4) Avolition

Options :

54025064917. 1

54025064918. 2

54025064919. 3

54025064920. 4

Question Number : 150 Question Id : 54025016230 Question Type : MCQ Option Shuffling : No

Is Question Mandatory : No Calculator : None Response Time : N.A Think Time : N.A

Minimum Instruction Time : 0

Correct Marks : 5 Wrong Marks : 1

Question Key Details :

Key	Value
Comprehension	Comp2

निम्नलिखित अनुच्छेद को पढ़िये और दिये गए प्रश्न के उत्तर दीजिए :

ब्रिजेश 25 वर्ष का ऑटोरिक्षा चालक है। उसे लगातार महसूस और विश्वास होता है कि उस क्षेत्र की पुलिस उस पर नजर रखती है तथा उसका पीछा करती है। पुलिस की गश्त से उसे यह महसूस होता है कि उसके व्यवहार पर बारीकी से नजर रखी जा रही है। उसके इस गंभीर भय के कारण उसके पारिवारिक संबंधों तथा काम में अड़चनें आ रही हैं तथा उसका परिवार और मित्र सभी उसके प्रति चिंताग्रस्त हैं। ब्रिजेश बहुत बार अप्रत्याशित ढंग से तथा अनुपयुक्त तरीके से हंसता है, कभी-कभी बात करते करते रुक जाता है और शून्य में घूरता है जैसे कि उसे कुछ दिखाई और सुनाई दे रहा है जो कि वहाँ उपस्थित नहीं है।

मनोविदलता का इनमें से कौन-सा सकारात्मक लक्षण नहीं है, पहचानिए :

- (1) भ्रमासक्ति
- (2) विभ्रान्ति
- (3) औपचारिक चिंतन विकार
- (4) इच्छाशक्ति न्यूनता

Options :

54025064917. 1

54025064918. 2

54025064919. 3

54025064920. 4

Sociology

Group Number :	4
Group Id :	540250337
Group Maximum Duration :	45
Group Minimum Duration :	45
Show Attended Group? :	No
Edit Attended Group? :	No
Break time :	0
Group Marks :	200
Is this Group for Examiner? :	No
Examiner permission :	Cant View

Show Progress Bar? :

No

Sociology

Section Id : 540250407
Section Number : 1
Section type : Online
Mandatory or Optional : Mandatory
Number of Questions : 50
Number of Questions to be attempted : 40
Section Marks : 200
Enable Mark as Answered Mark for Review and Clear Response : Yes
Maximum Instruction Time : 0
Sub-Section Number : 1
Sub-Section Id : 5402501144
Question Shuffling Allowed : Yes
Is Section Default? : null

Question Number : 151 Question Id : 54025016231 Question Type : MCQ Option Shuffling : No

Is Question Mandatory : No Calculator : None Response Time : N.A Think Time : N.A

Minimum Instruction Time : 0

Correct Marks : 5 Wrong Marks : 1

Question Key Details :

Key	Value
Comprehension	MCQ

Who were the main carriers of nationalism during colonial period ?

- (1) lower class
- (2) middle class
- (3) urban middle class
- (4) upper class

Options :

54025064921. 1

54025064922. 2

54025064923. 3

54025064924. 4

Question Number : 151 Question Id : 54025016231 Question Type : MCQ Option Shuffling : No

Is Question Mandatory : No Calculator : None Response Time : N.A Think Time : N.A

Minimum Instruction Time : 0

Correct Marks : 5 Wrong Marks : 1

Question Key Details :

Key	Value
Comprehension	MCQ

औपनिवेशिक काल में राष्ट्रवाद के मुख्य वाहक हैं :

- (1) निम्न वर्ग
- (2) मध्य वर्ग
- (3) शहरी मध्य वर्ग
- (4) उच्च वर्ग

Options :

54025064921. 1

54025064922. 2

54025064923. 3

54025064924. 4

Question Number : 152 Question Id : 54025016232 Question Type : MCQ Option Shuffling : No

Is Question Mandatory : No Calculator : None Response Time : N.A Think Time : N.A

Minimum Instruction Time : 0

Correct Marks : 5 Wrong Marks : 1

Question Key Details :

Key	Value
Comprehension	MCQ

Identify the three villages that were initially brought together to establish the trading post on River Hoogly by the English in 17th Century.

- (1) Kolikata, Maidan, Fort William
- (2) Kolikata, Sutanuti, Gobindapur
- (3) Sutanuti, Gobindapur, Fort William
- (4) Sutanuti, Kolikata, Fort William

Options :

54025064925. 1

54025064926. 2

54025064927. 3

54025064928. 4

Question Number : 152 Question Id : 54025016232 Question Type : MCQ Option Shuffling : No

Is Question Mandatory : No Calculator : None Response Time : N.A Think Time : N.A

Minimum Instruction Time : 0

Correct Marks : 5 Wrong Marks : 1

Question Key Details :

Key	Value
Comprehension	MCQ

उन तीन गांवों की पहचान करें जिन्हें 17^{वीं} शताब्दी में अंग्रेजों द्वारा हुगली नदी पर व्यापारिक चौकी स्थापित करने के लिए शुरू में एक साथ लाया गया था।

- (1) कोलकाता, मैदान, फोर्ट विलियम
- (2) कोलकाता, सुतानुति, गोविंदपुर
- (3) सुतानुति, गोविंदपुर, फोर्ट विलियम
- (4) सुतानुति, कोलकाता, फोर्ट विलियम

Options :

54025064925. 1

54025064926. 2

54025064927. 3

54025064928. 4

Question Number : 153 Question Id : 54025016233 Question Type : MCQ Option Shuffling : No

Is Question Mandatory : No Calculator : None Response Time : N.A Think Time : N.A

Minimum Instruction Time : 0

Correct Marks : 5 Wrong Marks : 1

Question Key Details :

Key	Value
Comprehension	MCQ

A falling dependency ratio can be the source of :

- (A) prosperity
- (B) economic growth
- (C) cause of worry
- (D) burden

Choose the **correct** answer from the options given below :

- (1) (A) and (D) only
- (2) (B) and (C) only
- (3) (A) and (B) only
- (4) (C) and (D) only

Options :

54025064929. 1

54025064930. 2

54025064931. 3

54025064932. 4

Question Number : 153 Question Id : 54025016233 Question Type : MCQ Option Shuffling : No

Is Question Mandatory : No Calculator : None Response Time : N.A Think Time : N.A

Minimum Instruction Time : 0

Correct Marks : 5 Wrong Marks : 1

Question Key Details :

Key	Value
Comprehension	MCQ

घटते आश्रितता अनुपात के स्रोत हो सकते हैं :

- (A) समृद्धि
- (B) आर्थिक वृद्धि
- (C) दहेज के कारण
- (D) बोझ

नीचे दिए गए विकल्पों में से सही उत्तर का चयन कीजिए :

- (1) केवल (A) और (D)
- (2) केवल (B) और (C)
- (3) केवल (A) और (B)
- (4) केवल (C) और (D)

Options :

54025064929. 1

54025064930. 2

54025064931. 3

54025064932. 4

Question Number : 154 Question Id : 54025016234 Question Type : MCQ Option Shuffling : No

Is Question Mandatory : No Calculator : None Response Time : N.A Think Time : N.A

Minimum Instruction Time : 0

Correct Marks : 5 Wrong Marks : 1

Question Key Details :

Key	Value
Comprehension	MCQ

What does population pyramid show ?

- (1) Age, birth rate, growth
- (2) Birth rate, gender, life expectancy
- (3) Life expectancy, birth rate, age
- (4) Age, gender, growth

Options :

54025064933. 1

54025064934. 2

54025064935. 3

54025064936. 4

Question Number : 154 Question Id : 54025016234 Question Type : MCQ Option Shuffling : No

Is Question Mandatory : No Calculator : None Response Time : N.A Think Time : N.A

Minimum Instruction Time : 0

Correct Marks : 5 Wrong Marks : 1

Question Key Details :

Key	Value
Comprehension	MCQ

जनसंख्या पिरामिड क्या दर्शाता है ?

- (1) आयु, जन्मदर, विकास
- (2) जन्मदर, लिंग, जीवन प्रत्याशिता
- (3) जीवन प्रत्याशिता, जन्म दर, आयु
- (4) आयु, लिंग, विकास

Options :

54025064933. 1

54025064934. 2

54025064935. 3

54025064936. 4

Question Number : 155 Question Id : 54025016235 Question Type : MCQ Option Shuffling : No

Is Question Mandatory : No Calculator : None Response Time : N.A Think Time : N.A

Minimum Instruction Time : 0

Correct Marks : 5 Wrong Marks : 1

Question Key Details :

Key	Value
Comprehension	MCQ

High rates of infant mortality and maternal mortality is the result of which factors ?

- (1) poverty and illiteracy
- (2) poverty and development
- (3) life expectancy and poverty
- (4) literacy and development

Options :

54025064937. 1

54025064938. 2

54025064939. 3

54025064940. 4

Question Number : 155 Question Id : 54025016235 Question Type : MCQ Option Shuffling : No

Is Question Mandatory : No Calculator : None Response Time : N.A Think Time : N.A

Minimum Instruction Time : 0

Correct Marks : 5 Wrong Marks : 1

Question Key Details :

Key	Value
Comprehension	MCQ

शिशु मृत्यु दरों और मातृ मृत्यु दरों में उच्च वृद्धि किस का परिणाम है?

- (1) गरीबी और असाक्षरता
- (2) गरीबी और विकास
- (3) जीवन प्रयाशिता और गरीबी
- (4) साक्षरता और विकास

Options :

54025064937. 1

54025064938. 2

54025064939. 3

54025064940. 4

Question Number : 156 Question Id : 54025016236 Question Type : MCQ Option Shuffling : No

Is Question Mandatory : No Calculator : None Response Time : N.A Think Time : N.A

Minimum Instruction Time : 0

Correct Marks : 5 Wrong Marks : 1

Question Key Details :

Key	Value
Comprehension	MCQ

Among the population of India, the working - age people are relatively larger in number. What is the reason for this ?

- (1) Sex ratio
- (2) Number of people in the infant group
- (3) Demographic Dividend
- (4) Low number of people who are unemployed

Options :

54025064941. 1

54025064942. 2

54025064943. 3

54025064944. 4

Question Number : 156 Question Id : 54025016236 Question Type : MCQ Option Shuffling : No

Is Question Mandatory : No Calculator : None Response Time : N.A Think Time : N.A

Minimum Instruction Time : 0

Correct Marks : 5 Wrong Marks : 1

Question Key Details :

Key	Value
Comprehension	MCQ

भारत की आबादी में कामकाजी उम्र के लोगों की संख्या अपेक्षाकृत अधिक है। इसका कारण क्या है?

- (1) लिंगानुपात दर
- (2) शिशु समूह के लोगों की संख्या
- (3) जनसांख्यिकीय लाभांश
- (4) बेरोजगार लोगों की कम संख्या

Options :

54025064941. 1

54025064942. 2

54025064943. 3

54025064944. 4

Question Number : 157 Question Id : 54025016237 Question Type : MCQ Option Shuffling : No

Is Question Mandatory : No Calculator : None Response Time : N.A Think Time : N.A

Minimum Instruction Time : 0

Correct Marks : 5 Wrong Marks : 1

Question Key Details :

Key	Value
Comprehension	MCQ

Match the example in List - I with concept in List - II.

List - I

Example

- (A) Sale of kidney by poor to cater to rich patients
- (B) BPO
- (C) Use of Branded cars
- (D) Dhorai

List - II

Concept

- (I) Weekly market
- (II) Status symbol
- (III) Globalisation
- (IV) Commodification

Choose the **correct** answer from the options given below :

- (1) (A)-(IV), (B)-(III), (C)-(II), (D)-(I)
- (2) (A)-(II), (B)-(I), (C)-(IV), (D)-(III)
- (3) (A)-(II), (B)-(I), (C)-(III), (D)-(IV)
- (4) (A)-(III), (B)-(I), (C)-(IV), (D)-(II)

Options :

54025064945. 1

54025064946. 2

54025064947. 3

54025064948. 4

Question Number : 157 Question Id : 54025016237 Question Type : MCQ Option Shuffling : No

Is Question Mandatory : No Calculator : None Response Time : N.A Think Time : N.A

Minimum Instruction Time : 0

Correct Marks : 5 Wrong Marks : 1

Question Key Details :

Key	Value
Comprehension	MCQ

सूची-I के उदाहरण से सूची-II के संकल्पना मिलान कीजिए:

सूची-I

उदाहरण

- (A) धनाढ्य रोगी की सेवा में गरीबों द्वारा किडनी बेचना
- (B) व्यापार में बाह्य स्रोतों के प्रयोग का उद्योग (BPO)
- (C) मंहगी कारों का उपयोग
- (D) धोराई

सूची-II

संकल्पना

- (I) साप्ताहिक बाजार
- (II) ओहदे का प्रतीक
- (III) भूमंडलीकरण
- (IV) पण्यीकरण

नीचे दिए गए विकल्पों में से सही उत्तर का चयन कीजिए :

- (1) (A)-(IV), (B)-(III), (C)-(II), (D)-(I)
- (2) (A)-(II), (B)-(I), (C)-(IV), (D)-(III)
- (3) (A)-(II), (B)-(I), (C)-(III), (D)-(IV)
- (4) (A)-(III), (B)-(I), (C)-(IV), (D)-(II)

Options :

54025064945. 1

54025064946. 2

54025064947. 3

54025064948. 4

Question Number : 158 Question Id : 54025016238 Question Type : MCQ Option Shuffling : No

Is Question Mandatory : No Calculator : None Response Time : N.A Think Time : N.A

Minimum Instruction Time : 0

Correct Marks : 5 Wrong Marks : 1

Question Key Details :

Key	Value
Comprehension	MCQ

Arrange the statements in a way that reflect emergence of New markets and groups in India during independence era.

- (A) After colonisation, India became a source of raw material and consumer of manufactured goods.
- (B) During British rule in India new communities emerged to take advantage of the economic opportunities.
- (C) After independence, some Marwari families established themselves as modern industries and even today they control more of India's industry than any other communities.
- (D) India was a major supplier of manufactured goods to the world market in pre-colonial era.
- (E) For instance, Marwaris, a successful business community took advantage of new opportunities in cities like Calcutta.

Choose the **correct** answer from the options given below :

- (1) (D), (A), (B), (E), (C)
- (2) (A), (B), (D), (C), (E)
- (3) (B), (A), (C), (E), (D)
- (4) (C), (A), (B), (D), (E)

Options :

54025064949. 1

54025064950. 2

54025064951. 3

54025064952. 4

Question Number : 158 Question Id : 54025016238 Question Type : MCQ Option Shuffling : No

Is Question Mandatory : No Calculator : None Response Time : N.A Think Time : N.A

Minimum Instruction Time : 0

Correct Marks : 5 Wrong Marks : 1

Question Key Details :

Key	Value
Comprehension	MCQ

कथनों को इस तरह से व्यवस्थित करें जो स्वतंत्रता काल के दौरान भारत में नए बाजारों और समूहों के उद्भव को दर्शाता है।

- (A) उपनिवेशीकरण के बाद, भारत कच्चे माल का स्रोत और निर्मित वस्तुओं का उपभोक्ता बन गया।
- (B) भारत में ब्रिटिश शासन के दौरान आर्थिक अवसरों का लाभ उठाने के लिए नए समुदायों का उदय हुआ।
- (C) स्वतंत्रता के बाद, कुछ मारवाड़ी परिवारों ने खुद को आधुनिक उद्योगों के रूप में स्थापित किया और आज भी वे किसी भी अन्य समुदायों की तुलना में भारत के उद्योगों पर अधिक नियंत्रण रखते हैं।
- (D) भारत, पूर्व-औपनिवेशिक युग में विश्व बाजार में निर्मित वस्तुओं का एक प्रमुख आपूर्तिकर्ता था।
- (E) उदाहरण के लिए, एक सफल व्यापारिक समुदाय मारवाड़ी ने नए अवसरों का लाभ उठाया।

नीचे दिए गए विकल्पों में से **सही उत्तर** का चयन कीजिए :

- (1) (D), (A), (B), (E), (C)
- (2) (A), (B), (D), (C), (E)
- (3) (B), (A), (C), (E), (D)
- (4) (C), (A), (B), (D), (E)

Options :

54025064949. 1

54025064950. 2

54025064951. 3

54025064952. 4

Question Number : 159 Question Id : 54025016239 Question Type : MCQ Option Shuffling : No

Is Question Mandatory : No Calculator : None Response Time : N.A Think Time : N.A

Minimum Instruction Time : 0

Correct Marks : 5 Wrong Marks : 1

Question Key Details :

Key	Value
Comprehension	MCQ

Common features of the caste-system include.

- (A) equalities within the same caste members
- (B) social mobility
- (C) occupational link
- (D) sub-divisions
- (E) hierarchical arrangement

Choose the **correct** answer from the options given below :

- (1) (A), (B), (C), (D) only
- (2) (A), (C), (D), (E) only
- (3) (B), (C), (D), (E) only
- (4) (A), (B), (D), (E) only

Options :

54025064953. 1

54025064954. 2

54025064955. 3

54025064956. 4

Question Number : 159 Question Id : 54025016239 Question Type : MCQ Option Shuffling : No

Is Question Mandatory : No Calculator : None Response Time : N.A Think Time : N.A

Minimum Instruction Time : 0

Correct Marks : 5 Wrong Marks : 1

Question Key Details :

Key	Value
Comprehension	MCQ

जाति-व्यवस्था की सामान्य विशेषताओं में शामिल हैं।

- (A) समान जाति के सदस्यों में समानता
- (B) सामाजिक गतिशीलता
- (C) व्यवसायिक कड़ी
- (D) उप-प्रभागों
- (E) पदानुक्रमित व्यवस्था

नीचे दिए गए विकल्पों में से **सही उत्तर** का चयन कीजिए :

- (1) केवल (A), (B), (C), (D)
- (2) केवल (A), (C), (D), (E)
- (3) केवल (B), (C), (D), (E)
- (4) केवल (A), (B), (D), (E)

Options :

54025064953. 1

54025064954. 2

54025064955. 3

54025064956. 4

Question Number : 160 Question Id : 54025016240 Question Type : MCQ Option Shuffling : No

Is Question Mandatory : No Calculator : None Response Time : N.A Think Time : N.A

Minimum Instruction Time : 0

Correct Marks : 5 Wrong Marks : 1

Question Key Details :

Key	Value
Comprehension	MCQ

Match the authors in List - I with their books in List - II.

List - I

List - II

Author

Book

(A) Bishop Joseph Butler

(I) Sultana's Dream

(B) M.G. Ranade

(II) Stree Purush Tulana

(C) Tarabai Shinde

(III) Analogy of Religion

(D) Begum Rokeya Sakhawat Hussain

(IV) Vedic Authorities for Widow Marriage

Choose the correct answer from the options given below :

(1) (A)-(III), (B)-(IV), (C)-(II), (D)-(I)

(2) (A)-(I), (B)-(III), (C)-(IV), (D)-(II)

(3) (A)-(III), (B)-(II), (C)-(IV), (D)-(I)

(4) (A)-(IV), (B)-(II), (C)-(I), (D)-(III)

Options :

54025064957. 1

54025064958. 2

54025064959. 3

54025064960. 4

Question Number : 160 Question Id : 54025016240 Question Type : MCQ Option Shuffling : No

Is Question Mandatory : No Calculator : None Response Time : N.A Think Time : N.A

Minimum Instruction Time : 0

Correct Marks : 5 Wrong Marks : 1

Question Key Details :

Key	Value
Comprehension	MCQ

सूची - I के लेखकों को सूची - II में उनके पुस्तक से मिलान करें।

सूची - I

लेखक

- (A) बिशप जोसेफ बटलर
(B) एम.जी. रानाडे
(C) ताराबाई शिंदे
(D) बेगम रूकइय्या शाखावत हुसैन

सूची - II

पुस्तक

- (I) सुल्तानाज, ड्रीम
(II) स्त्री पुरुष तुलना
(III) एनालॉजी ऑफ रिलिजन
(IV) विधवा पुनर्विवाह के लिए वैदिक प्राधिकरण

नीचे दिए गए विकल्पों में से सही उत्तर का चयन कीजिए :

- (1) (A)-(III), (B)-(IV), (C)-(II), (D)-(I)
(2) (A)-(I), (B)-(III), (C)-(IV), (D)-(II)
(3) (A)-(III), (B)-(II), (C)-(IV), (D)-(I)
(4) (A)-(IV), (B)-(II), (C)-(I), (D)-(III)

Options :

54025064957. 1

54025064958. 2

54025064959. 3

54025064960. 4

Question Number : 161 Question Id : 54025016241 Question Type : MCQ Option Shuffling : No

Is Question Mandatory : No Calculator : None Response Time : N.A Think Time : N.A

Minimum Instruction Time : 0

Correct Marks : 5 Wrong Marks : 1

Question Key Details :

Key	Value
Comprehension	MCQ

Explain the emergence of OBCs by arranging the statements in a correct sequence.

- (A) In 1990, the OBC issue became a major one in National Politics because the Central government decided to implement ten year old Mandal Commission Report.
- (B) Due to powerful social movements in the southern states policies to address the problem of the OBCs were in place long before they were discussed in Northern states.
- (C) The 1st Backward Classes Commission was headed by Kaka Kalelkar, however report made by his commission was sidelined.
- (D) It was under Janata Party that the OBC issue returned to central level.
- (E) Government under Nehru appointed a commission to look into measures for the welfare of the OBCs.

Choose the **correct** answer from the options given below :

- (1) (E), (C), (B), (D), (A)
- (2) (B), (E), (D), (C), (A)
- (3) (A), (B), (C), (D), (E)
- (4) (E), (B), (C), (A), (D)

Options :

54025064961. 1

54025064962. 2

54025064963. 3

54025064964. 4

Question Number : 161 Question Id : 54025016241 Question Type : MCQ Option Shuffling : No

Is Question Mandatory : No Calculator : None Response Time : N.A Think Time : N.A

Minimum Instruction Time : 0

Correct Marks : 5 Wrong Marks : 1

Question Key Details :

Key	Value
Comprehension	MCQ

कथनों को सही क्रम में व्यवस्थित करके ओबीसी (OBCs) के सही उद्भव की व्याख्या कीजिए।

- (A) 1990 के दशक में ओबीसी का मुद्दा राष्ट्रीय राजनीति में एक प्रमुख मुद्दा बन गया क्योंकि केंद्र सरकार ने दस साल पुरानी मंडल आयोग की रिपोर्ट को लागू करने का फैसला किया।
- (B) दक्षिणी राज्यों में शक्तिशाली सामाजिक आंदोलनों के कारण, ओबीसी की समस्या के समाधान के लिए नीतियों की चर्चा उत्तरी राज्यों में बहुत पहले से ही थी।
- (C) प्रथम पिछड़ा वर्ग आयोग काका कालेलकर की अध्यक्षता में था, हालांकि उनके आयोग द्वारा की गई रिपोर्ट को दरकिनार कर दिया गया था।
- (D) जनता पार्टी के अधीन ही ओबीसी का मुद्दा केंद्रीय स्तर पर लौटा।
- (E) नेहरू के अधीन सरकार ने ओबीसी के कल्याण के उपायों को देखने के लिए एक आयोग नियुक्त किया।

नीचे दिए गए विकल्पों में से सही उत्तर का चयन कीजिए :

- (1) (E), (C), (B), (D), (A)
- (2) (B), (E), (D), (C), (A)
- (3) (A), (B), (C), (D), (E)
- (4) (E), (B), (C), (A), (D)

Options :

54025064961. 1

54025064962. 2

54025064963. 3

54025064964. 4

Question Number : 162 Question Id : 54025016242 Question Type : MCQ Option Shuffling : No

Is Question Mandatory : No Calculator : None Response Time : N.A Think Time : N.A

Minimum Instruction Time : 0

Correct Marks : 5 Wrong Marks : 1

Question Key Details :

Key	Value
Comprehension	MCQ

The Dalit Panthers group emerged in :

- (1) Northern India
- (2) Eastern India
- (3) Southern India
- (4) Western India

Options :

54025064965. 1

54025064966. 2

54025064967. 3

54025064968. 4

Question Number : 162 Question Id : 54025016242 Question Type : MCQ Option Shuffling : No

Is Question Mandatory : No Calculator : None Response Time : N.A Think Time : N.A

Minimum Instruction Time : 0

Correct Marks : 5 Wrong Marks : 1

Question Key Details :

Key	Value
Comprehension	MCQ

दलित पैंथर्स समूह उद्भव हुआ :

- (1) उत्तरी भारत
- (2) पूर्वी भारत
- (3) दक्षिणी भारत
- (4) पश्चिमी भारत

Options :

54025064965. 1

54025064966. 2

54025064967. 3

54025064968. 4

Question Number : 163 Question Id : 54025016243 Question Type : MCQ Option Shuffling : No

Is Question Mandatory : No Calculator : None Response Time : N.A Think Time : N.A

Minimum Instruction Time : 0

Correct Marks : 5 Wrong Marks : 1

Question Key Details :

Key	Value
Comprehension	MCQ

The integration of tribals into the mainstream society created difficulties, One of the reasons being :

- (1) They refused to move out and accept new areas of dwelling.
- (2) They were gatherers who practiced shifting cultivation and did not have the necessary skills for other activities.
- (3) They could not be educated.
- (4) They continued to live the same way as before.

Options :

54025064969. 1

54025064970. 2

54025064971. 3

54025064972. 4

Question Number : 163 Question Id : 54025016243 Question Type : MCQ Option Shuffling : No

Is Question Mandatory : No Calculator : None Response Time : N.A Think Time : N.A

Minimum Instruction Time : 0

Correct Marks : 5 Wrong Marks : 1

Question Key Details :

Key	Value
Comprehension	MCQ

मुख्य धारा समाज में आदिवासियों के एकीकरण ने कठिनाईयाँ पैदा की, इसका एक कारण था:

- (1) उन्होंने बाहर जाने और रहने के नए क्षेत्रों को स्वीकार करने से अस्वीकार कर दिया।
- (2) वे जमाकर्ता थे जो झूम खेती का अभ्यास करते थे।
- (3) वे शिक्षित नहीं हो सके।
- (4) वे पहले की तरह ही रहते रहे।

Options :

54025064969. 1

54025064970. 2

54025064971. 3

54025064972. 4

Question Number : 164 Question Id : 54025016244 Question Type : MCQ Option Shuffling : No

Is Question Mandatory : No Calculator : None Response Time : N.A Think Time : N.A

Minimum Instruction Time : 0

Correct Marks : 5 Wrong Marks : 1

Question Key Details :

Key	Value
Comprehension	MCQ

India has a long tradition of religious pluralism, and peaceful co-existence of inter-religious faiths.

What is this inter-mixing called ?

- (1) socialism
- (2) communalism
- (3) secularism
- (4) syncretism

Options :

54025064973. 1

54025064974. 2

54025064975. 3

54025064976. 4

Question Number : 164 Question Id : 54025016244 Question Type : MCQ Option Shuffling : No

Is Question Mandatory : No Calculator : None Response Time : N.A Think Time : N.A

Minimum Instruction Time : 0

Correct Marks : 5 Wrong Marks : 1

Question Key Details :

Key	Value
Comprehension	MCQ

भारत में धार्मिक बहुलवाद की एक लंबी परंपरा है, अंतर-धार्मिक विश्वासों का शांतिपूर्ण सह अस्तित्व। इस अंतर-मिश्रण को कहा जाता है?

- (1) समाजवाद
- (2) साम्प्रदायिकता
- (3) धर्म निरपेक्षता
- (4) समन्वयवाद

Options :

54025064973. 1

54025064974. 2

54025064975. 3

54025064976. 4

Question Number : 165 Question Id : 54025016245 Question Type : MCQ Option Shuffling : No

Is Question Mandatory : No Calculator : None Response Time : N.A Think Time : N.A

Minimum Instruction Time : 0

Correct Marks : 5 Wrong Marks : 1

Question Key Details :

Key	Value
Comprehension	MCQ

Arrange the following statements in regard to the background the States Reorganisation Commission (SRC).

- (A) India witnessed vigorous movements that arose among Marathi and Kannada speaking population.
- (B) Martyrdom of Sriramulu provoked protests, led to the creation of the state of Andhra Pradesh and SRC in 1956.
- (C) In 1947, India along with its freedom was also divided.
- (D) In October, a former Gandhian, Potti Sriramulu died seven weeks after beginning a fast unto death.
- (E) Congress was hesitant to fulfill its promise in regards to linguistic states as it had witnessed partition as a consequence of intense attachment.

Choose the **correct** answer from the options given below :

- (1) (C), (A), (E), (B), (D)
- (2) (B), (C), (D), (E), (A)
- (3) (C), (E), (A), (D), (B)
- (4) (C), (A), (D), (B), (E)

Options :

54025064977. 1

54025064978. 2

54025064979. 3

54025064980. 4

Question Number : 165 Question Id : 54025016245 Question Type : MCQ Option Shuffling : No

Is Question Mandatory : No Calculator : None Response Time : N.A Think Time : N.A

Minimum Instruction Time : 0

Correct Marks : 5 Wrong Marks : 1

Question Key Details :

Key	Value
Comprehension	MCQ

राज्य पुनर्गठन आयोग पृष्ठभूमि के संबंध में निम्नलिखित कथनों को व्यवस्थित करें।

- (A) भारत गवाह है उस उर्जापूर्ण आंदोलन का जो मराठी और कन्नड लोगों द्वारा आरम्भ हुआ।
- (B) पोट्टि श्रीरामुलु के बलिदान ने विरोधों को भड़का दिया; परिणामस्वरूप आंध्र प्रदेश की स्थापना और 1956 में एसआरसी (SRC) अस्तित्व में आ गया।
- (C) जब भारत को स्वतंत्र किया गया तो उसके साथ ही उसका विभाजन भी कर दिया गया।
- (D) अक्टूबर में, एक पूर्व गांधीवादी नेता पोट्टि श्रीरामुलु इस मुद्दे पर आमरण अनशन पर बैठ गए और सात सप्ताह बाद उनकी मृत्यु हो गई।
- (E) कांग्रेस भाषाई राज्यों प्रस्ताव में अपने वचन पूरे करने में हिचकिचा रही थी क्योंकि उन्होंने अत्याधिक लगाव के परिणामस्वरूप विभाजन देखा था।

नीचे दिए गए विकल्पों में से सही उत्तर का चयन कीजिए :

- (1) (C), (A), (E), (B), (D)
- (2) (B), (C), (D), (E), (A)
- (3) (C), (E), (A), (D), (B)
- (4) (C), (A), (D), (B), (E)

Options :

54025064977. 1

54025064978. 2

54025064979. 3

54025064980. 4

Question Number : 166 Question Id : 54025016246 Question Type : MCQ Option Shuffling : No

Is Question Mandatory : No Calculator : None Response Time : N.A Think Time : N.A

Minimum Instruction Time : 0

Correct Marks : 5 Wrong Marks : 1

Question Key Details :

Key	Value
Comprehension	MCQ

Which among the following does not pose challenge to diversity of India ?

- (1) communalism
- (2) regionalism
- (3) casteism
- (4) secularism

Options :

54025064981. 1

54025064982. 2

54025064983. 3

54025064984. 4

Question Number : 166 Question Id : 54025016246 Question Type : MCQ Option Shuffling : No

Is Question Mandatory : No Calculator : None Response Time : N.A Think Time : N.A

Minimum Instruction Time : 0

Correct Marks : 5 Wrong Marks : 1

Question Key Details :

Key	Value
Comprehension	MCQ

निम्नलिखित में से कौन-सी भारत की विविधता के लिए चुनौती नहीं है ?

- (1) साम्प्रदायिकता
- (2) प्रादेशिकता
- (3) जातिवाद
- (4) धर्मनिरपेक्षता

Options :

54025064981. 1

54025064982. 2

54025064983. 3

54025064984. 4

Question Number : 167 Question Id : 54025016247 Question Type : MCQ Option Shuffling : No

Is Question Mandatory : No Calculator : None Response Time : N.A Think Time : N.A

Minimum Instruction Time : 0

Correct Marks : 5 Wrong Marks : 1

Question Key Details :

Key	Value
Comprehension	MCQ

Most states in India are created on linguistic basis except Chattisgarh, Uttaranchal and Jharkhand.

On what basis are these states created ?

- (1) Administrative
- (2) Linguistic
- (3) Ethnicity
- (4) Special status

Options :

54025064985. 1

54025064986. 2

54025064987. 3

54025064988. 4

Question Number : 167 Question Id : 54025016247 Question Type : MCQ Option Shuffling : No

Is Question Mandatory : No Calculator : None Response Time : N.A Think Time : N.A

Minimum Instruction Time : 0

Correct Marks : 5 Wrong Marks : 1

Question Key Details :

Key	Value
Comprehension	MCQ

छत्तीसगढ़, उत्तराखंड और झारखंड को छोड़कर भारत के अधिकांश राज्य भाषाई आधार पर बने हैं। यह तीन राज्य किस आधार पर बने हैं?

- (1) प्रशासनिक
- (2) भाषाई
- (3) नृजातीयता
- (4) विशेष दर्जा

Options :

54025064985. 1

54025064986. 2

54025064987. 3

54025064988. 4

Question Number : 168 Question Id : 54025016248 Question Type : MCQ Option Shuffling : No

Is Question Mandatory : No Calculator : None Response Time : N.A Think Time : N.A

Minimum Instruction Time : 0

Correct Marks : 5 Wrong Marks : 1

Question Key Details :

Key	Value
Comprehension	MCQ

According to western context what does secularism actually denote ?

- (1) separation of religious and political authority
- (2) all religions are same and must be treated equally
- (3) religious chauvinism
- (4) keeping away the hostility between religions

Options :

54025064989. 1

54025064990. 2

54025064991. 3

54025064992. 4

Question Number : 168 Question Id : 54025016248 Question Type : MCQ Option Shuffling : No

Is Question Mandatory : No Calculator : None Response Time : N.A Think Time : N.A

Minimum Instruction Time : 0

Correct Marks : 5 Wrong Marks : 1

Question Key Details :

Key	Value
Comprehension	MCQ

पश्चिमी संदर्भ के अनुसार, धर्म निरपेक्षता वास्तव में क्या संदर्भित करती है?

- (1) धार्मिक और राजनीतिक सत्ता का पृथक्करण
- (2) सभी धर्म समान हैं और उनके साथ समान व्यवहार किया जाना चाहिए
- (3) धार्मिक रूढ़िवाद
- (4) धर्मों के बीच शत्रुता को दूर रखना

Options :

54025064989. 1

54025064990. 2

54025064991. 3

54025064992. 4

Question Number : 169 Question Id : 54025016249 Question Type : MCQ Option Shuffling : No

Is Question Mandatory : No Calculator : None Response Time : N.A Think Time : N.A

Minimum Instruction Time : 0

Correct Marks : 5 Wrong Marks : 1

Question Key Details :

Key	Value
Comprehension	MCQ

Arrange the following communities in descending order of their population as per Census 2011.

- (A) Sikh
- (B) Buddhist
- (C) Jain
- (D) Christian

Choose the **correct** answer from the options given below :

- (1) (D), (A), (B), (C)
- (2) (A), (B), (C), (D)
- (3) (C), (A), (B), (D)
- (4) (B), (D), (A), (C)

Options :

54025064993. 1

54025064994. 2

54025064995. 3

54025064996. 4

Question Number : 169 Question Id : 54025016249 Question Type : MCQ Option Shuffling : No

Is Question Mandatory : No Calculator : None Response Time : N.A Think Time : N.A

Minimum Instruction Time : 0

Correct Marks : 5 Wrong Marks : 1

Question Key Details :

Key	Value
Comprehension	MCQ

2011 की जनगणना के अनुसार, निम्नलिखित समुदायों को उनकी जनसंख्या के अवरोही क्रम में व्यवस्थित करें।

- (A) सिख
- (B) बौद्ध
- (C) जैन
- (D) ईसाई

नीचे दिए गए विकल्पों में से सही उत्तर का चयन कीजिए :

- (1) (D), (A), (B), (C)
- (2) (A), (B), (C), (D)
- (3) (C), (A), (B), (D)
- (4) (B), (D), (A), (C)

Options :

54025064993. 1

54025064994. 2

54025064995. 3

54025064996. 4

Question Number : 170 Question Id : 54025016250 Question Type : MCQ Option Shuffling : No

Is Question Mandatory : No Calculator : None Response Time : N.A Think Time : N.A

Minimum Instruction Time : 0

Correct Marks : 5 Wrong Marks : 1

Question Key Details :

Key	Value
Comprehension	MCQ

Match the concept in List - I with the explanation in List - II.

List - I

List - II

Concept

Explanation

- | | |
|------------------------|-------------------------------------------------------------------------------------------------------------------------------------------|
| (A) Community identity | (I) Gandhian follower whose death led to creation of state of Andhra Pradesh |
| (B) State | (II) Indian constitution on minorities and cultural diversity |
| (C) Potti Sriramulu | (III) Identity based on birth and belonging is ascriptive |
| (D) Article 29 and 30 | (IV) An abstract entity consisting of a set of political - legal institution controlling a geographical territory and people living in it |

Choose the **correct** answer from the options given below :

- (1) (A)-(I), (B)-(II), (C)-(IV), (D)-(III)
- (2) (A)-(II), (B)-(I), (C)-(III), (D)-(IV)
- (3) (A)-(IV), (B)-(III), (C)-(II), (D)-(I)
- (4) (A)-(III), (B)-(IV), (C)-(I), (D)-(II)

Options :

54025064997. 1

54025064998. 2

54025064999. 3

54025065000. 4

Question Number : 170 Question Id : 54025016250 Question Type : MCQ Option Shuffling : No

Is Question Mandatory : No Calculator : None Response Time : N.A Think Time : N.A

Minimum Instruction Time : 0

Correct Marks : 5 Wrong Marks : 1

Question Key Details :

Key	Value
Comprehension	MCQ

सूची-I की संकल्पना को सूची-II के व्याख्या से मिलान करें।

सूची-I संकल्पना	सूची-II व्याख्या
(A) समुदाय पहचान	(I) गांधी के अनुयायी जिनकी मृत्यु के कारण आंध्र प्रदेश राज्य का निर्माण हुआ
(B) राष्ट्र-राज्य	(II) अल्प संख्यकों और सांस्कृतिक विविधता पर भारतीय संविधान के अनुच्छेद
(C) पोट्टि श्रीरामुलु	(III) जन्म और अपनेपन पहचान आधारित है
(D) अनुच्छेद 29 और 30	(IV) एक भौगोलिक क्षेत्र और उसमें रहने वाले लोगों को नियंत्रित करने वाली एक निर्धारित राजनीतिक वैधानिक संस्था की एक अमूर्त इकाई

नीचे दिए गए विकल्पों में से सही उत्तर का चयन कीजिए :

- (1) (A)-(I), (B)-(II), (C)-(IV), (D)-(III)
- (2) (A)-(II), (B)-(I), (C)-(III), (D)-(IV)
- (3) (A)-(IV), (B)-(III), (C)-(II), (D)-(I)
- (4) (A)-(III), (B)-(IV), (C)-(I), (D)-(II)

Options :

54025064997. 1
54025064998. 2
54025064999. 3
54025065000. 4

**Question Number : 171 Question Id : 54025016251 Question Type : MCQ Option Shuffling : No
Is Question Mandatory : No Calculator : None Response Time : N.A Think Time : N.A
Minimum Instruction Time : 0**

Correct Marks : 5 Wrong Marks : 1

Question Key Details :

Key	Value
Comprehension	MCQ

The different ways in which British colonialism lives on in contemporary India are :

- (A) Learning classical Indian music and dance
- (B) Eating using fork and spoon
- (C) Skirts and trousers as school uniform
- (D) Online education
- (E) Driving on the left side of the road

Choose the **correct** answer from the options given below :

- (1) (B), (C), (E) only
- (2) (B), (D), (E) only
- (3) (B), (A), (D) only
- (4) (A), (D), (C) only

Options :

54025065001. 1

54025065002. 2

54025065003. 3

54025065004. 4

Question Number : 171 Question Id : 54025016251 Question Type : MCQ Option Shuffling : No

Is Question Mandatory : No Calculator : None Response Time : N.A Think Time : N.A

Minimum Instruction Time : 0

Correct Marks : 5 Wrong Marks : 1

Question Key Details :

Key	Value
Comprehension	MCQ

समकालीन भारत में ब्रिटिश उप निवेशवाद जिन विभिन्न तरीकों से जीवित है, वे हैं :

- (A) भारतीय शास्त्रीय संगीत और नृत्य अध्ययन
- (B) छुरी और कांटे उपयोग करके खाना
- (C) स्कूल परिधान के रूप में स्कर्ट और पतलून
- (D) ऑनलाइन शिक्षा
- (E) सड़क के बाएँ ओर ड्राइविंग

नीचे दिए गए विकल्पों में से सही उत्तर का चयन कीजिए :

- (1) केवल (B), (C), (E)
- (2) केवल (B), (D), (E)
- (3) केवल (B), (A), (D)
- (4) केवल (A), (D), (C)

Options :

54025065001. 1

54025065002. 2

54025065003. 3

54025065004. 4

Question Number : 172 Question Id : 54025016252 Question Type : MCQ Option Shuffling : No

Is Question Mandatory : No Calculator : None Response Time : N.A Think Time : N.A

Minimum Instruction Time : 0

Correct Marks : 5 Wrong Marks : 1

Question Key Details :

Key	Value
Comprehension	MCQ

Who argued that the nature of urban impact varies according to the kind of relation a village has with a city or town ?

- (1) K. Marx
- (2) M. Weber
- (3) M.S.A. Rao
- (4) M.N. Srinivas

Options :

54025065005. 1

54025065006. 2

54025065007. 3

54025065008. 4

Question Number : 172 Question Id : 54025016252 Question Type : MCQ Option Shuffling : No

Is Question Mandatory : No Calculator : None Response Time : N.A Think Time : N.A

Minimum Instruction Time : 0

Correct Marks : 5 Wrong Marks : 1

Question Key Details :

Key	Value
Comprehension	MCQ

किस ने तर्क दिया कि शहर या कस्बे के साथ गांव के संबंध के प्रकार के अनुसार शहरी प्रभाव की प्रकृति भिन्न होती है?

- (1) का. मार्क्स
- (2) वेबर
- (3) एम.एस.ए. राव
- (4) एम.एन. श्रीनिवास

Options :

54025065005. 1

54025065006. 2

54025065007. 3

54025065008. 4

Question Number : 173 Question Id : 54025016253 Question Type : MCQ Option Shuffling : No

Is Question Mandatory : No Calculator : None Response Time : N.A Think Time : N.A

Minimum Instruction Time : 0

Correct Marks : 5 Wrong Marks : 1

Question Key Details :

Key	Value
Comprehension	MCQ

Who coined the term 'westernisation' ?

- (1) Ravi Varma
- (2) M.N. Srinivas
- (3) Tiplut Nongbri
- (4) B.R. Ambedkar

Options :

54025065009. 1

54025065010. 2

54025065011. 3

54025065012. 4

Question Number : 173 Question Id : 54025016253 Question Type : MCQ Option Shuffling : No

Is Question Mandatory : No Calculator : None Response Time : N.A Think Time : N.A

Minimum Instruction Time : 0

Correct Marks : 5 Wrong Marks : 1

Question Key Details :

Key	Value
Comprehension	MCQ

'पश्चिमीकरण' शब्द किसने गढ़ा ?

- (1) रवि वर्मा
- (2) एम.एन. श्रीनिवास
- (3) टिप्लुट नोंगबरी
- (4) बी.आर. अम्बेडकर

Options :

54025065009. 1

54025065010. 2

54025065011. 3

54025065012. 4

Question Number : 174 Question Id : 54025016254 Question Type : MCQ Option Shuffling : No**Is Question Mandatory : No Calculator : None Response Time : N.A Think Time : N.A****Minimum Instruction Time : 0****Correct Marks : 5 Wrong Marks : 1****Question Key Details :**

Key	Value
Comprehension	MCQ

In India, formation of caste associations and caste based political parties indicate :

- (1) Communalisation of caste
- (2) Secularisation of caste
- (3) Popularisation of caste
- (4) Regionalisation of caste

Options :

54025065013. 1

54025065014. 2

54025065015. 3

54025065016. 4

Question Number : 174 Question Id : 54025016254 Question Type : MCQ Option Shuffling : No**Is Question Mandatory : No Calculator : None Response Time : N.A Think Time : N.A****Minimum Instruction Time : 0****Correct Marks : 5 Wrong Marks : 1****Question Key Details :**

Key	Value
-----	-------

भारत में जाति संगठनों और जाति आधारित राजनीतिक दलों का गठन किसका सूचक है?

- (1) जाति का साम्प्रदायिकता
- (2) जाति का धर्मनिरपेक्षता
- (3) जाति का लोकप्रियकरण
- (4) जाति का प्रादेशीकरण

Options :

54025065013. 1

54025065014. 2

54025065015. 3

54025065016. 4

Question Number : 175 Question Id : 54025016255 Question Type : MCQ Option Shuffling : No

Is Question Mandatory : No Calculator : None Response Time : N.A Think Time : N.A

Minimum Instruction Time : 0

Correct Marks : 5 Wrong Marks : 1

Question Key Details :

Key	Value
Comprehension	MCQ

Panchayats in India have been given the power and authority to carryout functions of self-governance. Choose their functions from the following :

- (A) To make amendments in the constitution.
- (B) To promote schemes that will enhance social justice.
- (C) To create plan for the entire district.
- (D) To levy, collect and appropriate taxes, duties and toll.
- (E) To prepare plans and schemes for economic development.

Choose the correct answer from the options given below :

- (1) (A), (C), (E) only
- (2) (A), (D), (B) only
- (3) (B), (D), (E) only
- (4) (B), (C), (D) only

Options :

54025065017. 1

54025065018. 2

54025065019. 3

54025065020. 4

Question Number : 175 Question Id : 54025016255 Question Type : MCQ Option Shuffling : No

Is Question Mandatory : No Calculator : None Response Time : N.A Think Time : N.A

Minimum Instruction Time : 0

Correct Marks : 5 Wrong Marks : 1

Question Key Details :

Key	Value
Comprehension	MCQ

भारत में पंचायतों को स्व-शासन के कार्यों को पूरा करने की शक्ति और अधिकार दिया गया है, निम्नलिखित में से उन कार्यों का चयन करें?

- (A) संविधान में संशोधन करने के लिए।
- (B) सामाजिक न्याय को बढ़ावा देने से योजनाएं बढेंगी।
- (C) संपूर्ण जिले के लिए योजना बनाना।
- (D) उपयुक्त कर, शुल्क और टोल लगाना और वसूल करना।
- (E) आर्थिक विकास के लिए योजनाओं और स्कीमों को तैयार करना।

नीचे दिए गए विकल्पों में से सही उत्तर का चयन कीजिए :

- (1) केवल (A), (C), (E)
- (2) केवल (A), (D), (B)
- (3) केवल (B), (D), (E)
- (4) केवल (B), (C), (D)

Options :

54025065017. 1

54025065018. 2

54025065019. 3

54025065020. 4

Question Number : 176 Question Id : 54025016256 Question Type : MCQ Option Shuffling : No

Is Question Mandatory : No Calculator : None Response Time : N.A Think Time : N.A

Minimum Instruction Time : 0

Correct Marks : 5 Wrong Marks : 1

Question Key Details :

Key	Value
Comprehension	MCQ

The "Vision Mumba" document catered to the interest of one set of people. Whose interest did it represent ?

- (1) The urban poor and middle class
- (2) The urban rich and middle class
- (3) The urban poor
- (4) The Elite

Options :

54025065021. 1

54025065022. 2

54025065023. 3

54025065024. 4

Question Number : 176 Question Id : 54025016256 Question Type : MCQ Option Shuffling : No

Is Question Mandatory : No Calculator : None Response Time : N.A Think Time : N.A

Minimum Instruction Time : 0

Correct Marks : 5 Wrong Marks : 1

Question Key Details :

Key	Value
Comprehension	MCQ

लोगों के हित के लिए बनाया गया "विज्ञान मुंबा" दस्तावेज, यह किस समूह के हित का प्रतिनिधित्व करता था?

- (1) शहरी गरीब और मध्यम वर्ग
- (2) शहरी अमीर और मध्यम वर्ग
- (3) शहरी गरीब
- (4) अभिजात वर्ग

Options :

54025065021. 1

54025065022. 2

54025065023. 3

54025065024. 4

Question Number : 177 Question Id : 54025016257 Question Type : MCQ Option Shuffling : No

Is Question Mandatory : No Calculator : None Response Time : N.A Think Time : N.A

Minimum Instruction Time : 0

Correct Marks : 5 Wrong Marks : 1

Question Key Details :

Key	Value
Comprehension	MCQ

The social welfare responsibilities of Panchayats include which of the following ?

- (A) Recording statistics of birth and death
- (B) Making amendments to constitution
- (C) Control of cattle compounds
- (D) Framing rules for the state
- (E) Propagate family planning

Choose the **correct** answer from the options given below :

- (1) (B), (A), (E) only
- (2) (A), (C), (E) only
- (3) (B), (C), (D) only
- (4) (C), (D), (E) only

Options :

54025065025. 1

54025065026. 2

54025065027. 3

54025065028. 4

Question Number : 177 Question Id : 54025016257 Question Type : MCQ Option Shuffling : No

Is Question Mandatory : No Calculator : None Response Time : N.A Think Time : N.A

Minimum Instruction Time : 0

Correct Marks : 5 Wrong Marks : 1

Question Key Details :

Key	Value
Comprehension	MCQ

पंचायतों के सामाजिक कल्याण उत्तरदायित्वों में निम्नलिखित में से कौन-सा शामिल है?

- (A) जन्म और मृत्यु के आंकड़ों का अभिलेख
- (B) संविधान में संशोधन करना
- (C) पशु अहातों का नियंत्रण
- (D) राज्य के लिए फार्मिंग नियम बनाना
- (E) परिवार नियोजन का प्रचार

नीचे दिए गए विकल्पों में से **सही उत्तर** का चयन कीजिए :

- (1) केवल (B), (A), (E)
- (2) केवल (A), (C), (E)
- (3) केवल (B), (C), (D)
- (4) केवल (C), (D), (E)

Options :

54025065025. 1

54025065026. 2

54025065027. 3

54025065028. 4

Question Number : 178 Question Id : 54025016258 Question Type : MCQ Option Shuffling : No

Is Question Mandatory : No Calculator : None Response Time : N.A Think Time : N.A

Minimum Instruction Time : 0

Correct Marks : 5 Wrong Marks : 1

Question Key Details :

Key	Value
Comprehension	MCQ

Why did land reforms take place in Independent India ?

- (1) To inform the society members that colonisers have been replaced by Indian Government.
- (2) Lack of agricultural policies existing during colonial era.
- (3) To improve agricultural sector.
- (4) To establish state control over agricultural sector

Options :

54025065029. 1

54025065030. 2

54025065031. 3

54025065032. 4

Question Number : 178 Question Id : 54025016258 Question Type : MCQ Option Shuffling : No**Is Question Mandatory : No Calculator : None Response Time : N.A Think Time : N.A****Minimum Instruction Time : 0****Correct Marks : 5 Wrong Marks : 1****Question Key Details :**

Key	Value
Comprehension	MCQ

स्वतंत्र भारत में भूमि सुधार क्यों हुआ?

- (1) समाज के सदस्यों को सूचित करने के लिए कि भारत सरकार द्वारा उप निवेशवादियों को बदल दिया गया है।
- (2) औपनिवेशिक युग के दौरान मौजूदा कृषि नीतियों का अभाव।
- (3) कृषि क्षेत्र में सुधार के लिए।
- (4) कृषि क्षेत्र पर राज्य का नियंत्रण स्थापित करने के लिए।

Options :

54025065029. 1

54025065030. 2

54025065031. 3

54025065032. 4

Question Number : 179 Question Id : 54025016259 Question Type : MCQ Option Shuffling : No**Is Question Mandatory : No Calculator : None Response Time : N.A Think Time : N.A****Minimum Instruction Time : 0****Correct Marks : 5 Wrong Marks : 1****Question Key Details :**

Key	Value
Comprehension	MCQ

Many factories employ 'Badli' workers. Who are these workers ?

- (1) Permanent employees
- (2) Seasonal employees
- (3) Unskilled workers
- (4) Substitute workers

Options :

54025065033. 1

54025065034. 2

54025065035. 3

54025065036. 4

Question Number : 179 Question Id : 54025016259 Question Type : MCQ Option Shuffling : No

Is Question Mandatory : No Calculator : None Response Time : N.A Think Time : N.A

Minimum Instruction Time : 0

Correct Marks : 5 Wrong Marks : 1

Question Key Details :

Key	Value
Comprehension	MCQ

कई फैक्ट्रियां "बदली" मजदूरों को रोजगार देती हैं। ये मजदूर कौन हैं?

- (1) स्थायी कर्मचारी
- (2) मौसमी कर्मचारी
- (3) अकुशल कर्मचारी
- (4) वैकल्पिक कर्मचारी

Options :

54025065033. 1

54025065034. 2

54025065035. 3

54025065036. 4

**Question Number : 180 Question Id : 54025016260 Question Type : MCQ Option Shuffling : No
Is Question Mandatory : No Calculator : None Response Time : N.A Think Time : N.A
Minimum Instruction Time : 0**

Correct Marks : 5 Wrong Marks : 1

Question Key Details :

Key	Value
Comprehension	MCQ

Impact of the abolition of Zamindari system has led to :

- (1) increasing economic and political power of Zamindars
- (2) wiped out landlordism
- (3) end of sharecropping system
- (4) removal of layer of intermediaries between cultivators and the state

Options :

54025065037. 1

54025065038. 2

54025065039. 3

54025065040. 4

**Question Number : 180 Question Id : 54025016260 Question Type : MCQ Option Shuffling : No
Is Question Mandatory : No Calculator : None Response Time : N.A Think Time : N.A
Minimum Instruction Time : 0**

Correct Marks : 5 Wrong Marks : 1

Question Key Details :

Key	Value
Comprehension	MCQ

जर्मींदारी प्रथा के उन्मूलन का क्या प्रभाव पड़ा ?

- (1) जर्मींदारों के आर्थिक और राजनीतिक शक्ति में वृद्धि
- (2) जर्मींदारी प्रथा को समाप्त करना
- (3) बटाईदारी प्रणाली का अंत
- (4) कृषक और राज्य के बीच बिचौलियों की श्रंखला को हटाना

Options :

54025065037. 1

54025065038. 2

54025065039. 3

54025065040. 4

Question Number : 181 Question Id : 54025016261 Question Type : MCQ Option Shuffling : No

Is Question Mandatory : No Calculator : None Response Time : N.A Think Time : N.A

Minimum Instruction Time : 0

Correct Marks : 5 Wrong Marks : 1

Question Key Details :

Key	Value
Comprehension	MCQ

Name the process by which the Government may sell its shares in public sector companies.

- (1) Disinvestment
- (2) Withdrawal
- (3) Privatization
- (4) Outsourcing

Options :

54025065041. 1

54025065042. 2

54025065043. 3

54025065044. 4

Question Number : 181 Question Id : 54025016261 Question Type : MCQ Option Shuffling : No

Is Question Mandatory : No Calculator : None Response Time : N.A Think Time : N.A

Minimum Instruction Time : 0

Correct Marks : 5 Wrong Marks : 1

Question Key Details :

Key	Value
Comprehension	MCQ

उस प्रक्रिया का नाम बताइये, जिसके द्वारा सरकार सार्वजनिक क्षेत्र की कंपनियों में अपने शेयर बेच सकती है?

- (1) विनिवेश
- (2) निकासी
- (3) निजीकरण
- (4) बाह्यस्रोतन

Options :

54025065041. 1

54025065042. 2

54025065043. 3

54025065044. 4

Question Number : 182 Question Id : 54025016262 Question Type : MCQ Option Shuffling : No

Is Question Mandatory : No Calculator : None Response Time : N.A Think Time : N.A

Minimum Instruction Time : 0

Correct Marks : 5 Wrong Marks : 1

Question Key Details :

Key	Value
Comprehension	MCQ

Match the explanation in List - I with the concept in List - II.

List - I	List - II
Explanation	Concept
(A) Opening up of a country's economy to world market	(I) Transnational corporations
(B) Workforce involved in design and development	(II) Electronic economy
(C) Firms having more than one company in many countries	(III) Liberalization
(D) Able to make transactions without physical presence	(IV) Knowledge economy

Choose the **correct** answer from the options given below :

- (1) (A)-(III), (B)-(II), (C)-(I), (D)-(IV)
- (2) (A)-(III), (B)-(I), (C)-(II), (D)-(IV)
- (3) (A)-(III), (B)-(IV), (C)-(II), (D)-(I)
- (4) (A)-(III), (B)-(IV), (C)-(I), (D)-(II)

Options :

54025065045. 1

54025065046. 2

54025065047. 3

54025065048. 4

Question Number : 182 Question Id : 54025016262 Question Type : MCQ Option Shuffling : No

Is Question Mandatory : No Calculator : None Response Time : N.A Think Time : N.A

Minimum Instruction Time : 0

Correct Marks : 5 Wrong Marks : 1

Question Key Details :

Key	Value
Comprehension	MCQ

सूची-I के व्याख्या को सूची-II की संकल्पना से मिलान करें:

सूची-I

व्याख्या

- (A) किसी देश की अर्थव्यवस्था को विश्व बाज़ार के लिए खोलना
(B) डिजाइन और विकास में शामिल कार्यबल
(C) कई देशों में एक से अधिक कंपनियों वाली फर्मे
(D) भौतिक उपस्थिति के बिना लेन-देन करने में सक्षम

सूची-II

संकल्पना

- (I) बहुराष्ट्रीय निगम
(II) इलेक्ट्रॉनिक अर्थव्यवस्था
(III) उदारीकरण
(IV) ज्ञान अर्थव्यवस्था

नीचे दिए गए विकल्पों में से सही उत्तर का चयन कीजिए :

- (1) (A)-(III), (B)-(II), (C)-(I), (D)-(IV)
(2) (A)-(III), (B)-(I), (C)-(II), (D)-(IV)
(3) (A)-(III), (B)-(IV), (C)-(II), (D)-(I)
(4) (A)-(III), (B)-(IV), (C)-(I), (D)-(II)

Options :

54025065045. 1
54025065046. 2
54025065047. 3
54025065048. 4

Question Number : 183 Question Id : 54025016263 Question Type : MCQ Option Shuffling : No

Is Question Mandatory : No Calculator : None Response Time : N.A Think Time : N.A

Minimum Instruction Time : 0

Correct Marks : 5 Wrong Marks : 1

Question Key Details :

Key	Value
Comprehension	MCQ

“Mr. Charles Leadbeater coined the term ‘Thin Air’ business in his article published in the year 1999.” What does this mean ?

- (1) people in the business of air bottling plant
- (2) people make money by producing something which cannot be touched, felt, weighed or measured like consultants, lawyers.
- (3) people who work in airlines.
- (4) people who work in factories.

Options :

54025065049. 1

54025065050. 2

54025065051. 3

54025065052. 4

Question Number : 183 Question Id : 54025016263 Question Type : MCQ Option Shuffling : No

Is Question Mandatory : No Calculator : None Response Time : N.A Think Time : N.A

Minimum Instruction Time : 0

Correct Marks : 5 Wrong Marks : 1

Question Key Details :

Key	Value
Comprehension	MCQ

“मि. चार्ल्स लीड बीटर ने वर्ष 1999 में प्रकाशित अपने लेख में “थिन एयर” व्यवसायिक शब्द गढ़ा था”। इसका क्या अर्थ है?

- (1) एयर बोटलिंग प्लांट के कारोबार में लोग
- (2) लोग ऐसी चीज का उत्पादन करके पैसा कमाते हैं जिसे छुआ नहीं जा सकता, महसूस नहीं किया जा सकता, तोला या मापा नहीं जा सकता है, जैसे वकील, सलाहकार आदि।
- (3) जो लोग एयरलाइंस में काम करते हैं।
- (4) जो लोग कारखानों में काम करते हैं।

Options :

54025065049. 1

54025065050. 2

54025065051. 3

54025065052. 4

Question Number : 184 Question Id : 54025016264 Question Type : MCQ Option Shuffling : No

Is Question Mandatory : No Calculator : None Response Time : N.A Think Time : N.A

Minimum Instruction Time : 0

Correct Marks : 5 Wrong Marks : 1

Question Key Details :

Key	Value
Comprehension	MCQ

Match the abbreviations in List - I with the names in List - II.

List - I	List - II
Abbreviation	Name
(A) ASEAN	(I) South Asian Federation of Trade Association
(B) WTO	(II) South Asian Regional Conference
(C) SAFTA	(III) Association of South-east Asian Nations
(D) SARC	(IV) World Trade Organisation

Choose the correct answer from the options given below :

- (1) (A)-(III), (B)-(I), (C)-(II), (D)-(IV)
- (2) (A)-(III), (B)-(II), (C)-(I), (D)-(IV)
- (3) (A)-(III), (B)-(IV), (C)-(II), (D)-(I)
- (4) (A)-(III), (B)-(IV), (C)-(I), (D)-(II)

Options :

54025065053. 1

54025065054. 2

54025065055. 3

54025065056. 4

Question Number : 184 Question Id : 54025016264 Question Type : MCQ Option Shuffling : No

Is Question Mandatory : No Calculator : None Response Time : N.A Think Time : N.A

Minimum Instruction Time : 0

Correct Marks : 5 Wrong Marks : 1

Question Key Details :

Key	Value
Comprehension	MCQ

सूची-I के शब्द संक्षेप को सूची-II के नाम से मिलान करें:

सूची-I (शब्द-संक्षेप)	सूची-II (नाम)
(A) आसियान (ASEAN)	(I) साउथ एशियन फ़ैडरेशन ऑफ़ ट्रेड एसोसिएशन
(B) डब्ल्यू.टी.ओ. (WTO)	(II) साउथ एशिया क्षेत्रीय सम्मेलन
(C) साफ्टा (SAFTA)	(III) साउथ एशियाई क्षेत्रीय सम्मेलन
(D) सार्क (SARC)	(IV) विश्व व्यापार संगठन

नीचे दिए गए विकल्पों में से सही उत्तर का चयन कीजिए :

- (1) (A)-(III), (B)-(I), (C)-(II), (D)-(IV)
- (2) (A)-(III), (B)-(II), (C)-(I), (D)-(IV)
- (3) (A)-(III), (B)-(IV), (C)-(II), (D)-(I)
- (4) (A)-(III), (B)-(IV), (C)-(I), (D)-(II)

Options :

54025065053. 1

54025065054. 2

54025065055. 3

54025065056. 4

Question Number : 185 Question Id : 54025016265 Question Type : MCQ Option Shuffling : No

Is Question Mandatory : No Calculator : None Response Time : N.A Think Time : N.A

Minimum Instruction Time : 0

Correct Marks : 5 Wrong Marks : 1

Question Key Details :

Key	Value
-----	-------

Comprehension	MCQ
---------------	-----

Arrange the following in ascending order of their foundation.

- (A) The Madras Mail
- (B) The Pioneer
- (C) The Statesman
- (D) The Times of India

Choose the **correct** answer from the options given below :

- (1) (B), (C), (D), (A)
- (2) (D), (B), (A), (C)
- (3) (A), (B), (C), (D)
- (4) (C), (B), (A), (D)

Options :

54025065057. 1

54025065058. 2

54025065059. 3

54025065060. 4

Question Number : 185 Question Id : 54025016265 Question Type : MCQ Option Shuffling : No

Is Question Mandatory : No Calculator : None Response Time : N.A Think Time : N.A

Minimum Instruction Time : 0

Correct Marks : 5 Wrong Marks : 1

Question Key Details :

Key	Value
Comprehension	MCQ

निम्नलिखित को उनकी स्थापना के क्रम में आरोही क्रम में व्यवस्थित करें।

- (A) दि मद्रास मेल
- (B) दि पायनियर
- (C) दि स्टेट्समैन
- (D) दि टाइम्स ऑफ इंडिया

नीचे दिए गए विकल्पों में से सही उत्तर का चयन कीजिए :

- (1) (B), (C), (D), (A)
- (2) (D), (B), (A), (C)
- (3) (A), (B), (C), (D)
- (4) (C), (B), (A), (D)

Options :

54025065057. 1

54025065058. 2

54025065059. 3

54025065060. 4

Question Number : 186 Question Id : 54025016266 Question Type : MCQ Option Shuffling : No

Is Question Mandatory : No Calculator : None Response Time : N.A Think Time : N.A

Minimum Instruction Time : 0

Correct Marks : 5 Wrong Marks : 1

Question Key Details :

Key	Value
Comprehension	MCQ

Arrange in chronological order from oldest to newest.

- (A) Bardoloi Satyagraha
- (B) Bengal Revolt
- (C) Tebhaga movement
- (D) Deccan Riots
- (E) Champaran Satyagraha

Choose the **correct** answer from the options given below :

- (1) (D), (A), (B), (C), (E)
- (2) (D), (B), (C), (E), (A)
- (3) (D), (B), (A), (C), (E)
- (4) (D), (B), (E), (A), (C)

Options :

54025065061. 1

54025065062. 2

54025065063. 3

54025065064. 4

Question Number : 186 Question Id : 54025016266 Question Type : MCQ Option Shuffling : No

Is Question Mandatory : No Calculator : None Response Time : N.A Think Time : N.A

Minimum Instruction Time : 0

Correct Marks : 5 Wrong Marks : 1

Question Key Details :

Key	Value
Comprehension	MCQ

कालानुक्रमिक क्रम में सबसे पुरातन से नवीन क्रम में व्यवस्थित करें।

- (A) बारदोली सत्याग्रह
- (B) बंगाल विद्रोह
- (C) तेभागा आंदोलन
- (D) दक्कन दंगा
- (E) चम्पारण सत्याग्रह

नीचे दिए गए विकल्पों में से **सही उत्तर** का चयन कीजिए :

- (1) (D), (A), (B), (C), (E)
- (2) (D), (B), (C), (E), (A)
- (3) (D), (B), (A), (C), (E)
- (4) (D), (B), (E), (A), (C)

Options :

54025065061. 1

54025065062. 2

54025065063. 3

54025065064. 4

Question Number : 187 Question Id : 54025016267 Question Type : MCQ Option Shuffling : No

Is Question Mandatory : No Calculator : None Response Time : N.A Think Time : N.A

Minimum Instruction Time : 0

Correct Marks : 5 Wrong Marks : 1

Question Key Details :

Key	Value
Comprehension	MCQ

The charismatic leader who led a major uprising against the British in Jharkhand was :

- (1) Raja Ram Mohan Roy
- (2) Birsa Munda
- (3) Mahatma Gandhi
- (4) Babu Jagjeewan Ram

Options :

54025065065. 1

54025065066. 2

54025065067. 3

54025065068. 4

Question Number : 187 Question Id : 54025016267 Question Type : MCQ Option Shuffling : No

Is Question Mandatory : No Calculator : None Response Time : N.A Think Time : N.A

Minimum Instruction Time : 0

Correct Marks : 5 Wrong Marks : 1

Question Key Details :

Key	Value
Comprehension	MCQ

झारखंड में अंग्रेजों के खिलाफ बड़े विद्रोह का नेतृत्व करने वाले करिश्माई नेता कौन थे ?

- (1) राजा राममोहन राय
- (2) बिरसा मुंडा
- (3) महात्मा गांधी
- (4) बाबू जगजीवन राम

Options :

54025065065. 1

54025065066. 2

54025065067. 3

54025065068. 4

Question Number : 188 Question Id : 54025016268 Question Type : MCQ Option Shuffling : No

Is Question Mandatory : No Calculator : None Response Time : N.A Think Time : N.A

Minimum Instruction Time : 0

Correct Marks : 5 Wrong Marks : 1

Question Key Details :

Key	Value
Comprehension	MCQ

One of the key issues that bind the tribal movements accross India :

- (1) over-exploitation
- (2) cutting of forests
- (3) alienation from the forest lands
- (4) ethnicity

Options :

54025065069. 1

54025065070. 2

54025065071. 3

54025065072. 4

Question Number : 188 Question Id : 54025016268 Question Type : MCQ Option Shuffling : No

Is Question Mandatory : No Calculator : None Response Time : N.A Think Time : N.A

Minimum Instruction Time : 0

Correct Marks : 5 Wrong Marks : 1

Question Key Details :

Key	Value
Comprehension	MCQ

उन मुद्दों में से एक जो पूरे भारत में आदिवासी आंदोलन को बांधता है :

- (1) अति-शोषण
- (2) जंगलों की कटाई
- (3) वन भूमि से अलगाव
- (4) जातीयता

Options :

54025065069. 1

54025065070. 2

54025065071. 3

54025065072. 4

Question Number : 189 Question Id : 54025016269 Question Type : MCQ Option Shuffling : No

Is Question Mandatory : No Calculator : None Response Time : N.A Think Time : N.A

Minimum Instruction Time : 0

Correct Marks : 5 Wrong Marks : 1

Question Key Details :

Key	Value
Comprehension	MCQ

What was the common demand among the jute workers in Kolkata and workers of the Buckingham and Carnatic Mills in Chennai, and workers from Ahmedabad ?

- (1) Better working condition
- (2) 25% increase of wages
- (3) 50% increase of wages
- (4) Improvement in work infrastructure

Options :

54025065073. 1

54025065074. 2

54025065075. 3

54025065076. 4

Question Number : 189 Question Id : 54025016269 Question Type : MCQ Option Shuffling : No

Is Question Mandatory : No Calculator : None Response Time : N.A Think Time : N.A

Minimum Instruction Time : 0

Correct Marks : 5 Wrong Marks : 1

Question Key Details :

Key	Value
Comprehension	MCQ

कोलकाता में जूट श्रमिकों और बकिंगम के श्रमिकों, चेन्नई में कर्नाटक मिलों और अहमदाबाद में श्रमिकों की सामान्य मांग क्या थी?

- (1) बेहतर काम की दशा
- (2) 25% वेतन की बढ़ोत्तरी
- (3) 50% वेतन की बढ़ोत्तरी
- (4) कार्य की आधारभूत संरचना में सुधार करना

Options :

54025065073. 1

54025065074. 2

54025065075. 3

54025065076. 4

Question Number : 190 Question Id : 54025016270 Question Type : MCQ Option Shuffling : No

Is Question Mandatory : No Calculator : None Response Time : N.A Think Time : N.A

Minimum Instruction Time : 0

Correct Marks : 5 Wrong Marks : 1

Question Key Details :

Key	Value
Comprehension	MCQ

What is the central concern of new social movements ?

- (1) quality of life issues like having a clean environment.
- (2) changing distribution of power among people.
- (3) role of political parties.
- (4) addressing issues of class-based exploitation.

Options :

54025065077. 1

54025065078. 2

54025065079. 3

54025065080. 4

Question Number : 190 Question Id : 54025016270 Question Type : MCQ Option Shuffling : No

Is Question Mandatory : No Calculator : None Response Time : N.A Think Time : N.A

Minimum Instruction Time : 0

Correct Marks : 5 Wrong Marks : 1

Question Key Details :

Key	Value
Comprehension	MCQ

नए सामाजिक आंदोलनों के केन्द्रीय मुद्दे क्या हैं?

- (1) जीवन की गुणवत्ता के मुद्दे जैसे स्वच्छ वातावरण का होना।
- (2) लोगों में शक्ति के वितरण में परिवर्तन।
- (3) राजनीतिक दलों की भूमिका।
- (4) वर्ग जाति आधारित शोषण के मुद्दे को संबोधित करना।

Options :

54025065077. 1

54025065078. 2

54025065079. 3

54025065080. 4

Sub-Section Number : 2

Sub-Section Id : 5402501145

Question Shuffling Allowed : No

Is Section Default? : null

Question Number : 191 Question Id : 54025016271 Question Type : MCQ Option Shuffling : No

Is Question Mandatory : No Calculator : None Response Time : N.A Think Time : N.A

Minimum Instruction Time : 0

Correct Marks : 5 Wrong Marks : 1

Question Key Details :

Key	Value
Comprehension	Comp1

Read the passage and answer the following questions given below :

The Meghalaya Succession Act (passed by an all-male Meghalaya legislative assembly) received the President's assent in 1986. The Succession Act applies specifically to the Khasi and Jaintia tribes of Meghalaya and confers on 'any Khasi and Jaintia of sound mind not being a minor, the right to dispose of his self-acquired property by will'. The practice of making out a will does not exist in Khasi custom. Khasi custom prescribes the devolution of ancestral property in the female line.

There is a feeling, specially among the educated Khasi, that their rules of kinship and inheritance are biased in favour of women and are too restrictive. The Succession Act is therefore seen as an attempt at removing such restrictions and at correcting the perceived female bias in the Khasi tradition. To assess whether the popular perception of female bias in the Khasi tradition is indeed valid, it is necessary to view the Khasi matrilineal system in the context of the prevalent gender relations and definitions of gender roles.

Several scholars have highlighted the inherent contradictions in matrilineal systems. One such contradiction arises from the separation of the line of descent and inheritance on the one hand and the structure of authority and control on the other. The former, which links the mother to the daughter, comes in conflict with the latter, which links the mother's brother to the sister's son. (In other words, a woman inherits property from her mother and passes it on to her daughter, while a man controls his sister's property and passes on control to his sister's son. Thus, inheritance passes from mother to daughter whereas control passes from (maternal) uncle to nephew.

Khasi matriliney generates intense role conflict for men. They are torn between their responsibilities to their natal house on the one hand, and to their wife and children on the other. In a way, the strain generated by such role conflict affects Khasi women more intensely. A can never be fully assured that her husband does not find his sister's house a more congenial place than her own. Similarly a sister will be apprehensive about her brother's commitment to her welfare because the wife with whom he lives can always pull him away from his responsibilities to his natal house.

The women are more adversely affected than men by the role conflict generated in the Khasi matrilineal system not only because men wield power and women are deprived of it, but also because the system is more lenient to men when there is a transgression of rules. Women possess only token authority in Khasi society; it is men who are the defacto power holders. The system is indeed weighted in favour of male matri-kin rather than male patri-kin. (In other words, despite matriliney, men are the power holders in Khasi society; the only difference is that a man's relatives on his mother's side matter more than his relatives on his father's side.)

In which year did Meghalaya succession Act received the President's assent ?

- (1) 1896
- (2) 1986
- (3) 1966
- (4) 1867

Options :

54025065081. 1

54025065082. 2

54025065083. 3

54025065084. 4

Question Number : 191 Question Id : 54025016271 Question Type : MCQ Option Shuffling : No

Is Question Mandatory : No Calculator : None Response Time : N.A Think Time : N.A

Minimum Instruction Time : 0

Correct Marks : 5 Wrong Marks : 1

Question Key Details :

Key	Value
Comprehension	Comp1

गद्यांश को पढ़ें और निम्नलिखित प्रश्न का उत्तर दें :

मेघालय उत्तराधिकार अधिनियम (मेघालय विधानसभा, जिसके सभी सदस्य पुरुष ही थे, द्वारा पारित) को 1986 में राष्ट्रपति से स्वीकृति मिली। अधिनियम विशेष तौर पर खासी और जैन्तिया जनजाति पर लागू होता है और 'उस खासी या जैन्तिया व्यक्ति पर मान्य है जो बुद्धि से सबल है और अल्पआयु नहीं है; उस व्यक्ति को अपनी खुद की बनाई हुए जायदाद की वसीयत बनाने का अधिकार है'। वसीयत बनाने की प्रथा, खासियों में नहीं है। खासी प्रथा मातृ वंशज के आधार पर जायदाद को अमुक स्त्री को सुपुर्द किए जाने की बात करती है।

खासियों में विशेषतः पढ़े-लिखे खासियों को ऐसा प्रतीत होता है कि उनके संबंधों और उत्तराधिकार के नियम, स्त्रियों के पक्ष में हैं और अपने आप में सीमित भी हैं। अतः यह अधिनियम खासी परंपरा में व्याप्त महिलाओं के पक्ष में किए गए पक्षपात को ठीक कर इस सीमितता को समाप्त करने का एक प्रयास है। यह परखने के लिए कि क्या ये प्रचलित बोधता-जो खासी परंपरा में स्त्रियों के प्रति पक्षपात की बात करती है, सही है कि नहीं, यह जरूरी है कि खासी मातृवंशीय व्यवस्था को व्यावहारिक लिंग-संबंधों और लिंग भूमिकाओं की परिभाषाओं के संदर्भ में देखा जाए।

कई विशेषज्ञों ने मातृवंशीय व्यवस्थाओं में अंतर्निहित विरोधाभासों पर ध्यान केंद्रित किया है। एक ऐसा विरोधाभास वंशानुक्रम की रेखा और उत्तराधिकार एवं नियंत्रण और सत्ता की संरचना के अलग-अलग से उत्पन्न होता है। पहला संदर्भ जो माँ और बेटे को जोड़ता है और दूसरे संदर्भ के आ जाने से प्रतिद्वंद्विता की उत्पत्ति होती है पहला संदर्भ जो माँ और भाई को बहन के बेटे से जोड़ता है (दूसरे शब्दों में, एक स्त्री अपने माँ से जायदाद उत्तराधिकार में पाती है और आगे अपनी बेटे को देती है, जबकि एक पुरुष अपनी बहन की जायदाद पर नियंत्रण रखता है, और वो नियंत्रण अपनी बहन के बेटे को देता है। इस तरह संपत्ति का कानूनी उत्तराधिकार तो माँ से बेटे को जाता है पर व्यावहारिक रूप में यह अधिकार मामा से भानजे को जाता है।)

खासी मातृवंश पुरुषों के लिए गहन भूमिका द्वंद्व की स्थिति उत्पन्न करता है। वो अपनी पत्नी और बच्चों एवं जन्म के घर की जिम्मेदारियों के बीच बँट जाते हैं। एक तरह से भूमि के-द्वंद्व द्वारा उत्पन्न इस तनाव का असर खासी स्त्रियों पर बहुत ज्यादा पड़ता है। एक स्त्री कभी सुनिश्चित नहीं कर सकती कि उसके पति को उसकी बहन का कल्याण ज्यादा लगता लगता है या अपना स्वयं का। उसकी तरह, बहन सोचेगी कि शादीशुदा भाई अपनी बहन के प्रति जिम्मेदारियाँ को भूल जाएगा।

खासी मातृवंशीय व्यवस्था में उत्पन्न भूमि के-द्वंद्व से पुरुषों की बजाय, अंततः स्त्रियाँ ज्यादा गहन रूप से प्रभावित होती हैं, सिर्फ इसलिए नहीं, क्योंकि पुरुष अधिकारों के स्वामी हैं और स्त्रियाँ इससे वंचित हैं पर इसलिए भी क्योंकि समाज पुरुषों को नियम तोड़ने पर उनको कम सजा देता है या नज़र अंदाज़ कर देता है। खासी समाज में स्त्रियों के पास सिर्फ नाम का अधिकार होता है - असली अधिकार पुरुषों के हाथ में होता है। हाँ, इतना जरूर है कि यह व्यवस्था पुरुष के मातृ नातेदार की तरफ झुकी हुई है न कि पितृ-नातेदार की तरफ। (दूसरे शब्दों में मातृवंश के बावजूद, पुरुष ही खासी समाज में शक्ति के स्वामी हैं; सिर्फ एक अंतर है कि एक पुरुष के लिए उसकी माँ की तरफ के रिश्तेदारों का उसके पिता की तरफ के रिश्तेदारों से ज्यादा महत्व होता है।)

मेघालय उत्तराधिकार अधिनियम को राष्ट्रपति से स्वीकृति कब मिली?

- (1) 1896
- (2) 1986
- (3) 1966
- (4) 1867

Options :

54025065081. 1
54025065082. 2
54025065083. 3
54025065084. 4

Question Number : 192 Question Id : 54025016272 Question Type : MCQ Option Shuffling : No

Is Question Mandatory : No Calculator : None Response Time : N.A Think Time : N.A

Minimum Instruction Time : 0

Correct Marks : 5 Wrong Marks : 1

Question Key Details :

Key	Value
Comprehension	Comp1

Read the passage and answer the following questions given below :

The Meghalaya Succession Act (passed by an all-male Meghalaya legislative assembly) received the President's assent in 1986. The Succession Act applies specifically to the Khasi and Jaintia tribes of Meghalaya and confers on 'any Khasi and Jaintia of sound mind not being a minor, the right to dispose of his self-acquired property by will'. The practice of making out a will does not exist in Khasi custom. Khasi custom prescribes the devolution of ancestral property in the female line.

There is a feeling, specially among the educated Khasi, that their rules of kinship and inheritance are biased in favour of women and are too restrictive. The Succession Act is therefore seen as an attempt at removing such restrictions and at correcting the perceived female bias in the Khasi tradition. To assess whether the popular perception of female bias in the Khasi tradition is indeed valid, it is necessary to view the Khasi matrilineal system in the context of the prevalent gender relations and definitions of gender roles.

Several scholars have highlighted the inherent contradictions in matrilineal systems. One such contradiction arises from the separation of the line of descent and inheritance on the one hand and the structure of authority and control on the other. The former, which links the mother to the daughter, comes in conflict with the latter, which links the mother's brother to the sister's son. (In other words, a woman inherits property from her mother and passes it on to her daughter, while a man controls his sister's property and passes on control to his sister's son. Thus, inheritance passes from mother to daughter whereas control passes from (maternal) uncle to nephew.

Khasi matrilineality generates intense role conflict for men. They are torn between their responsibilities to their natal house on the one hand, and to their wife and children on the other. In a way, the strain generated by such role conflict affects Khasi women more intensely. A man can never be fully assured that her husband does not find his sister's house a more congenial place than her own. Similarly a sister will be apprehensive about her brother's commitment to her welfare because the wife with whom he lives can always pull him away from his responsibilities to his natal house.

The women are more adversely affected than men by the role conflict generated in the Khasi matrilineal system not only because men wield power and women are deprived of it, but also because the system is more lenient to men when there is a transgression of rules. Women possess only token authority in Khasi society; it is men who are the defacto power holders. The system is indeed weighted in favour of male matri-kin rather than male patri-kin. (In other words, despite matrilineality, men are the power holders in Khasi society; the only difference is that a man's relatives on his mother's side matter more than his relatives on his father's side.)

Which of the following custom is practiced in Khasi society ?

- (1) Making out a will
- (2) Brother controlling sister's property
- (3) Property passing to maternal uncle
- (4) Property passing to nephew

Options :

54025065085. 1

54025065086. 2

54025065087. 3

54025065088. 4

Question Number : 192 Question Id : 54025016272 Question Type : MCQ Option Shuffling : No

Is Question Mandatory : No Calculator : None Response Time : N.A Think Time : N.A

Minimum Instruction Time : 0

Correct Marks : 5 Wrong Marks : 1

Question Key Details :

Key	Value
Comprehension	Comp1

गद्यांश को पढ़ें और निम्नलिखित प्रश्न का उत्तर दें :

मेघालय उत्तराधिकार अधिनियम (मेघालय विधानसभा, जिसके सभी सदस्य पुरुष ही थे, द्वारा पारित) को 1986 में राष्ट्रपति से स्वीकृति मिली। अधिनियम विशेष तौर पर खासी और जैन्तिया जनजाति पर लागू होता है और 'उस खासी या जैन्तिया व्यक्ति पर मान्य है जो बुद्धि से सबल है और अल्पआयु नहीं है; उस व्यक्ति को अपनी खुद की बनाई हुए जायदाद की वसीयत बनाने का अधिकार है'। वसीयत बनाने की प्रथा, खासियों में नहीं है। खासी प्रथा मातृ वंशज के आधार पर जायदाद को अमुक स्त्री को सुपुर्द किए जाने की बात करती है।

खासियों में विशेषतः पढ़े-लिखे खासियों को ऐसा प्रतीत होता है कि उनके संबंधों और उत्तराधिकार के नियम, स्त्रियों के पक्ष में हैं और अपने आप में सीमित भी हैं। अतः यह अधिनियम खासी परंपरा में व्याप्त महिलाओं के पक्ष में किए गए पक्षपात को ठीक कर इस सीमितता को समाप्त करने का एक प्रयास है। यह परखने के लिए कि क्या ये प्रचलित बोधता-जो खासी परंपरा में स्त्रियों के प्रति पक्षपात की बात करती है, सही है कि नहीं, यह जरूरी है कि खासी मातृवंशीय व्यवस्था को व्यावहारिक लिंग-संबंधों और लिंग भूमिकाओं की परिभाषाओं के संदर्भ में देखा जाए।

कई विशेषज्ञों ने मातृवंशीय व्यवस्थाओं में अंतर्निहित विरोधाभासों पर ध्यान केंद्रित किया है। एक ऐसा विरोधाभास वंशानुक्रम की रेखा और उत्तराधिकार एवं नियंत्रण और सत्ता की संरचना के अलगाव से उत्पन्न होता है। पहला संदर्भ जो माँ और बेटी को जोड़ता है और दूसरे संदर्भ के आ जाने से प्रतिद्वंद्विता की उत्पत्ति होती है पहला संदर्भ जो माँ और भाई को बहन के बेटे से जोड़ता है (दूसरे शब्दों में, एक स्त्री अपने माँ से जायदाद उत्तराधिकार में पाती है और आगे अपनी बेटी को देती है, जबकि एक पुरुष अपनी बहन की जायदाद पर नियंत्रण रखता है, और वो नियंत्रण अपनी बहन के बेटे को देता है। इस तरह संपत्ति का कानूनी उत्तराधिकार तो माँ से बेटी को जाता है पर व्यावहारिक रूप में यह अधिकार मामा से भानजे को जाता है।)

खासी मातृवंश पुरुषों के लिए गहन भूमिका द्वंद्व की स्थिति उत्पन्न करता है। वो अपनी पत्नी और बच्चों एवं जन्म के घर की जिम्मेदारियों के बीच बँट जाते हैं। एक तरह से भूमि के-द्वंद्व द्वारा उत्पन्न इस तनाव का असर खासी स्त्रियों पर बहुत ज्यादा पड़ता है। एक स्त्री कभी सुनिश्चित नहीं कर सकती कि उसके पति को उसकी बहन का कल्याण ज्यादा लगता लगता है या अपना स्वयं का। उसकी तरह, बहन सोचेगी कि शादीशुदा भाई अपनी बहन के प्रति जिम्मेदारियाँ को भूल जाएगा।

खासी मातृवंशीय व्यवस्था में उत्पन्न भूमि के-द्वंद्व से पुरुषों की बजाय, अंततः स्त्रियाँ ज्यादा गहन रूप से प्रभावित होती हैं, सिर्फ इसलिए नहीं, क्योंकि पुरुष अधिकारों के स्वामी हैं और स्त्रियाँ इससे वंचित हैं पर इसलिए भी क्योंकि समाज पुरुषों को नियम तोड़ने पर उनको कम सजा देता है या नज़र अंदाज़ कर देता है। खासी समाज में स्त्रियों के पास सिर्फ नाम का अधिकार होता है - असली अधिकार पुरुषों के हाथ में होता है। हाँ, इतना जरूर है कि यह व्यवस्था पुरुष के मातृ नातेदार की तरफ झुकी हुई है न कि पितृ-नातेदार की तरफ। (दूसरे शब्दों में मातृवंश के बावजूद, पुरुष ही खासी समाज में शक्ति के स्वामी हैं; सिर्फ एक अंतर है कि एक पुरुष के लिए उसकी माँ की तरफ के रिश्तेदारों का उसके पिता की तरफ के रिश्तेदारों से ज्यादा महत्त्व होता है।)

निम्नलिखित में से कौन-से रिवाज़ खासी समाज में प्रचलित हैं?

- (1) वसीयत बनाना
- (2) बहन की संपत्ति पर भाई द्वारा नियंत्रण
- (3) संपत्ति को मामा को हस्तांतरित करना
- (4) संपत्ति को भाँजे को हस्तांतरित करना

Options :

54025065085. 1

54025065086. 2

54025065087. 3

54025065088. 4

Question Number : 193 Question Id : 54025016273 Question Type : MCQ Option Shuffling : No

Is Question Mandatory : No Calculator : None Response Time : N.A Think Time : N.A

Minimum Instruction Time : 0

Correct Marks : 5 Wrong Marks : 1

Question Key Details :

Key	Value
Comprehension	Comp1

Read the passage and answer the following questions given below :

The Meghalaya Succession Act (passed by an all-male Meghalaya legislative assembly) received the President's assent in 1986. The Succession Act applies specifically to the Khasi and Jaintia tribes of Meghalaya and confers on 'any Khasi and Jaintia of sound mind not being a minor, the right to dispose of his self-acquired property by will'. The practice of making out a will does not exist in Khasi custom. Khasi custom prescribes the devolution of ancestral property in the female line.

There is a feeling, specially among the educated Khasi, that their rules of kinship and inheritance are biased in favour of women and are too restrictive. The Succession Act is therefore seen as an attempt at removing such restrictions and at correcting the perceived female bias in the Khasi tradition. To assess whether the popular perception of female bias in the Khasi tradition is indeed valid, it is necessary to view the Khasi matrilineal system in the context of the prevalent gender relations and definitions of gender roles.

Several scholars have highlighted the inherent contradictions in matrilineal systems. One such contradiction arises from the separation of the line of descent and inheritance on the one hand and the structure of authority and control on the other. The former, which links the mother to the daughter, comes in conflict with the latter, which links the mother's brother to the sister's son. (In other words, a woman inherits property from her mother and passes it on to her daughter, while a man controls his sister's property and passes on control to his sister's son. Thus, inheritance passes from mother to daughter whereas control passes from (maternal) uncle to nephew.

Khasi matrilineality generates intense role conflict for men. They are torn between their responsibilities to their natal house on the one hand, and to their wife and children on the other. In a way, the strain generated by such role conflict affects Khasi women more intensely. A man can never be fully assured that her husband does not find his sister's house a more congenial place than her own. Similarly a sister will be apprehensive about her brother's commitment to her welfare because the wife with whom he lives can always pull him away from his responsibilities to his natal house.

The women are more adversely affected than men by the role conflict generated in the Khasi matrilineal system not only because men wield power and women are deprived of it, but also because the system is more lenient to men when there is a transgression of rules. Women possess only token authority in Khasi society; it is men who are the defacto power holders. The system is indeed weighted in favour of male matri-kin rather than male patri-kin. (In other words, despite matrilineality, men are the power holders in Khasi society; the only difference is that a man's relatives on his mother's side matter more than his relatives on his father's side.)

Which form of family is reflected in Khasi society ?

- (1) Political
- (2) Matrilineal
- (3) Patrilineal
- (4) Matriarchal

Options :

54025065089. 1

54025065090. 2

54025065091. 3

54025065092. 4

Question Number : 193 Question Id : 54025016273 Question Type : MCQ Option Shuffling : No

Is Question Mandatory : No Calculator : None Response Time : N.A Think Time : N.A

Minimum Instruction Time : 0

Correct Marks : 5 Wrong Marks : 1

Question Key Details :

Key	Value
Comprehension	Comp1

गद्यांश को पढ़ें और निम्नलिखित प्रश्न का उत्तर दें :

मेघालय उत्तराधिकार अधिनियम (मेघालय विधानसभा, जिसके सभी सदस्य पुरुष ही थे, द्वारा पारित) को 1986 में राष्ट्रपति से स्वीकृति मिली। अधिनियम विशेष तौर पर खासी और जैन्तिया जनजाति पर लागू होता है और 'उस खासी या जैन्तिया व्यक्ति पर मान्य है जो बुद्धि से सबल है और अल्पआयु नहीं है; उस व्यक्ति को अपनी खुद की बनाई हुए जायदाद की वसीयत बनाने का अधिकार है'। वसीयत बनाने की प्रथा, खासियों में नहीं है। खासी प्रथा मातृ वंशज के आधार पर जायदाद को अमुक स्त्री को सुपुर्द किए जाने की बात करती है।

खासियों में विशेषतः पढ़े-लिखे खासियों को ऐसा प्रतीत होता है कि उनके संबंधों और उत्तराधिकार के नियम, स्त्रियों के पक्ष में हैं और अपने आप में सीमित भी हैं। अतः यह अधिनियम खासी परंपरा में व्याप्त महिलाओं के पक्ष में किए गए पक्षपात को ठीक कर इस सीमितता को समाप्त करने का एक प्रयास है। यह परखने के लिए कि क्या ये प्रचलित बोधता-जो खासी परंपरा में स्त्रियों के प्रति पक्षपात की बात करती है, सही है कि नहीं, यह जरूरी है कि खासी मातृवंशीय व्यवस्था को व्यावहारिक लिंग-संबंधों और लिंग भूमिकाओं की परिभाषाओं के संदर्भ में देखा जाए।

कई विशेषज्ञों ने मातृवंशीय व्यवस्थाओं में अंतर्निहित विरोधाभासों पर ध्यान केंद्रित किया है। एक ऐसा विरोधाभास वंशानुक्रम की रेखा और उत्तराधिकार एवं नियंत्रण और सत्ता की संरचना के अलगाव से उत्पन्न होता है। पहला संदर्भ जो माँ और बेटी को जोड़ता है और दूसरे संदर्भ के आ जाने से प्रतिद्वंद्विता की उत्पत्ति होती है पहला संदर्भ जो माँ और भाई को बहन के बेटे से जोड़ता है (दूसरे शब्दों में, एक स्त्री अपने माँ से जायदाद उत्तराधिकार में पाती है और आगे अपनी बेटी को देती है, जबकि एक पुरुष अपनी बहन की जायदाद पर नियंत्रण रखता है, और वो नियंत्रण अपनी बहन के बेटे को देता है। इस तरह संपत्ति का कानूनी उत्तराधिकार तो माँ से बेटी को जाता है पर व्यावहारिक रूप में यह अधिकार मामा से भानजे को जाता है।)

खासी मातृवंश पुरुषों के लिए गहन भूमिका द्वंद्व की स्थिति उत्पन्न करता है। वो अपनी पत्नी और बच्चों एवं जन्म के घर की जिम्मेदारियों के बीच बँट जाते हैं। एक तरह से भूमि के-द्वंद्व द्वारा उत्पन्न इस तनाव का असर खासी स्त्रियों पर बहुत ज्यादा पड़ता है। एक स्त्री कभी सुनिश्चित नहीं कर सकती कि उसके पति को उसकी बहन का कल्याण ज्यादा लगता लगता है या अपना स्वयं का। उसकी तरह, बहन सोचेगी कि शादीशुदा भाई अपनी बहन के प्रति जिम्मेदारियाँ को भूल जाएगा।

खासी मातृवंशीय व्यवस्था में उत्पन्न भूमि के-द्वंद्व से पुरुषों की बजाय, अंततः स्त्रियाँ ज्यादा गहन रूप से प्रभावित होती हैं, सिर्फ इसलिए नहीं, क्योंकि पुरुष अधिकारों के स्वामी हैं और स्त्रियाँ इससे वंचित हैं पर इसलिए भी क्योंकि समाज पुरुषों को नियम तोड़ने पर उनको कम सजा देता है या नज़र अंदाज़ कर देता है। खासी समाज में स्त्रियों के पास सिर्फ नाम का अधिकार होता है - असली अधिकार पुरुषों के हाथ में होता है। हाँ, इतना जरूर है कि यह व्यवस्था पुरुष के मातृ नातेदार की तरफ झुकी हुई है न कि पितृ-नातेदार की तरफ। (दूसरे शब्दों में मातृवंश के बावजूद, पुरुष ही खासी समाज में शक्ति के स्वामी हैं; सिर्फ एक अंतर है कि एक पुरुष के लिए उसकी माँ की तरफ के रिश्तेदारों का उसके पिता की तरफ के रिश्तेदारों से ज्यादा महत्त्व होता है।)

खासी समाज में किस प्रकार के परिवार का वर्णन है?

- (1) राजनीतिक
- (2) मातृवंशीय
- (3) पितृवंशीय
- (4) मातृसत्तात्मक

Options :

54025065089. 1

54025065090. 2

54025065091. 3

54025065092. 4

Question Number : 194 Question Id : 54025016274 Question Type : MCQ Option Shuffling : No

Is Question Mandatory : No Calculator : None Response Time : N.A Think Time : N.A

Minimum Instruction Time : 0

Correct Marks : 5 Wrong Marks : 1

Question Key Details :

Key	Value
Comprehension	Comp1

Read the passage and answer the following questions given below :

The Meghalaya Succession Act (passed by an all-male Meghalaya legislative assembly) received the President's assent in 1986. The Succession Act applies specifically to the Khasi and Jaintia tribes of Meghalaya and confers on 'any Khasi and Jaintia of sound mind not being a minor, the right to dispose of his self-acquired property by will'. The practice of making out a will does not exist in Khasi custom. Khasi custom prescribes the devolution of ancestral property in the female line.

There is a feeling, specially among the educated Khasi, that their rules of kinship and inheritance are biased in favour of women and are too restrictive. The Succession Act is therefore seen as an attempt at removing such restrictions and at correcting the perceived female bias in the Khasi tradition. To assess whether the popular perception of female bias in the Khasi tradition is indeed valid, it is necessary to view the Khasi matrilineal system in the context of the prevalent gender relations and definitions of gender roles.

Several scholars have highlighted the inherent contradictions in matrilineal systems. One such contradiction arises from the separation of the line of descent and inheritance on the one hand and the structure of authority and control on the other. The former, which links the mother to the daughter, comes in conflict with the latter, which links the mother's brother to the sister's son. (In other words, a woman inherits property from her mother and passes it on to her daughter, while a man controls his sister's property and passes on control to his sister's son. Thus, inheritance passes from mother to daughter whereas control passes from (maternal) uncle to nephew.

Khasi matrilineality generates intense role conflict for men. They are torn between their responsibilities to their natal house on the one hand, and to their wife and children on the other. In a way, the strain generated by such role conflict affects Khasi women more intensely. A man can never be fully assured that her husband does not find his sister's house a more congenial place than her own. Similarly a sister will be apprehensive about her brother's commitment to her welfare because the wife with whom he lives can always pull him away from his responsibilities to his natal house.

The women are more adversely affected than men by the role conflict generated in the Khasi matrilineal system not only because men wield power and women are deprived of it, but also because the system is more lenient to men when there is a transgression of rules. Women possess only token authority in Khasi society; it is men who are the defacto power holders. The system is indeed weighted in favour of male matri-kin rather than male patri-kin. (In other words, despite matrilineality, men are the power holders in Khasi society; the only difference is that a man's relatives on his mother's side matter more than his relatives on his father's side.)

The Meghalaya Succession Act is an attempt at one of the following :

- (1) Remove male bias
- (2) Establish gender equality
- (3) Remove female bias
- (4) Give power to men

Options :

54025065093. 1

54025065094. 2

54025065095. 3

54025065096. 4

Question Number : 194 Question Id : 54025016274 Question Type : MCQ Option Shuffling : No

Is Question Mandatory : No Calculator : None Response Time : N.A Think Time : N.A

Minimum Instruction Time : 0

Correct Marks : 5 Wrong Marks : 1

Question Key Details :

Key	Value
Comprehension	Comp1

गद्यांश को पढ़ें और निम्नलिखित प्रश्न का उत्तर दें :

मेघालय उत्तराधिकार अधिनियम (मेघालय विधानसभा, जिसके सभी सदस्य पुरुष ही थे, द्वारा पारित) को 1986 में राष्ट्रपति से स्वीकृति मिली। अधिनियम विशेष तौर पर खासी और जैन्तिया जनजाति पर लागू होता है और 'उस खासी या जैन्तिया व्यक्ति पर मान्य है जो बुद्धि से सबल है और अल्पआयु नहीं है; उस व्यक्ति को अपनी खुद की बनाई हुए जायदाद की वसीयत बनाने का अधिकार है'। वसीयत बनाने की प्रथा, खासियों में नहीं है। खासी प्रथा मातृ वंशज के आधार पर जायदाद को अमुक स्त्री को सुपुर्द किए जाने की बात करती है।

खासियों में विशेषतः पढ़े-लिखे खासियों को ऐसा प्रतीत होता है कि उनके संबंधों और उत्तराधिकार के नियम, स्त्रियों के पक्ष में हैं और अपने आप में सीमित भी हैं। अतः यह अधिनियम खासी परंपरा में व्याप्त महिलाओं के पक्ष में किए गए पक्षपात को ठीक कर इस सीमितता को समाप्त करने का एक प्रयास है। यह परखने के लिए कि क्या ये प्रचलित बोधता-जो खासी परंपरा में स्त्रियों के प्रति पक्षपात की बात करती है, सही है कि नहीं, यह जरूरी है कि खासी मातृवंशीय व्यवस्था को व्यावहारिक लिंग-संबंधों और लिंग भूमिकाओं की परिभाषाओं के संदर्भ में देखा जाए।

कई विशेषज्ञों ने मातृवंशीय व्यवस्थाओं में अंतर्निहित विरोधाभासों पर ध्यान केंद्रित किया है। एक ऐसा विरोधाभास वंशानुक्रम की रेखा और उत्तराधिकार एवं नियंत्रण और सत्ता की संरचना के अलगाव से उत्पन्न होता है। पहला संदर्भ जो माँ और बेटी को जोड़ता है और दूसरे संदर्भ के आ जाने से प्रतिद्वंद्विता की उत्पत्ति होती है पहला संदर्भ जो माँ और भाई को बहन के बेटे से जोड़ता है (दूसरे शब्दों में, एक स्त्री अपने माँ से जायदाद उत्तराधिकार में पाती है और आगे अपनी बेटी को देती है, जबकि एक पुरुष अपनी बहन की जायदाद पर नियंत्रण रखता है, और वो नियंत्रण अपनी बहन के बेटे को देता है। इस तरह संपत्ति का कानूनी उत्तराधिकार तो माँ से बेटी को जाता है पर व्यावहारिक रूप में यह अधिकार मामा से भानजे को जाता है।)

खासी मातृवंश पुरुषों के लिए गहन भूमिका द्वंद्व की स्थिति उत्पन्न करता है। वो अपनी पत्नी और बच्चों एवं जन्म के घर की जिम्मेदारियों के बीच बँट जाते हैं। एक तरह से भूमि के-द्वंद्व द्वारा उत्पन्न इस तनाव का असर खासी स्त्रियों पर बहुत ज्यादा पड़ता है। एक स्त्री कभी सुनिश्चित नहीं कर सकती कि उसके पति को उसकी बहन का कल्याण ज्यादा लगता लगता है या अपना स्वयं का। उसकी तरह, बहन सोचेगी कि शादीशुदा भाई अपनी बहन के प्रति जिम्मेदारियाँ को भूल जाएगा।

खासी मातृवंशीय व्यवस्था में उत्पन्न भूमि के-द्वंद्व से पुरुषों की बजाय, अंततः स्त्रियाँ ज्यादा गहन रूप से प्रभावित होती हैं, सिर्फ इसलिए नहीं, क्योंकि पुरुष अधिकारों के स्वामी हैं और स्त्रियाँ इससे वंचित हैं पर इसलिए भी क्योंकि समाज पुरुषों को नियम तोड़ने पर उनको कम सजा देता है या नज़र अंदाज़ कर देता है। खासी समाज में स्त्रियों के पास सिर्फ नाम का अधिकार होता है - असली अधिकार पुरुषों के हाथ में होता है। हाँ, इतना जरूर है कि यह व्यवस्था पुरुष के मातृ नातेदार की तरफ झुकी हुई है न कि पितृ-नातेदार की तरफ। (दूसरे शब्दों में मातृवंश के बावजूद, पुरुष ही खासी समाज में शक्ति के स्वामी हैं; सिर्फ एक अंतर है कि एक पुरुष के लिए उसकी माँ की तरफ के रिश्तेदारों का उसके पिता की तरफ के रिश्तेदारों से ज्यादा महत्त्व होता है।)

मेघालय उत्तराधिकारी अधिनियम निम्नलिखित में से कौन-सा प्रयास है ?

- (1) पुरुष पक्षपात को हटाना
- (2) लिंग समानता को स्थापित करना
- (3) महिला पक्षपात को हटाना
- (4) पुरुषों को शक्ति प्रदान करना

Options :

54025065093. 1

54025065094. 2

54025065095. 3

54025065096. 4

Question Number : 195 Question Id : 54025016275 Question Type : MCQ Option Shuffling : No

Is Question Mandatory : No Calculator : None Response Time : N.A Think Time : N.A

Minimum Instruction Time : 0

Correct Marks : 5 Wrong Marks : 1

Question Key Details :

Key	Value
Comprehension	Comp1

Read the passage and answer the following questions given below :

The Meghalaya Succession Act (passed by an all-male Meghalaya legislative assembly) received the President's assent in 1986. The Succession Act applies specifically to the Khasi and Jaintia tribes of Meghalaya and confers on 'any Khasi and Jaintia of sound mind not being a minor, the right to dispose of his self-acquired property by will'. The practice of making out a will does not exist in Khasi custom. Khasi custom prescribes the devolution of ancestral property in the female line.

There is a feeling, specially among the educated Khasi, that their rules of kinship and inheritance are biased in favour of women and are too restrictive. The Succession Act is therefore seen as an attempt at removing such restrictions and at correcting the perceived female bias in the Khasi tradition. To assess whether the popular perception of female bias in the Khasi tradition is indeed valid, it is necessary to view the Khasi matrilineal system in the context of the prevalent gender relations and definitions of gender roles.

Several scholars have highlighted the inherent contradictions in matrilineal systems. One such contradiction arises from the separation of the line of descent and inheritance on the one hand and the structure of authority and control on the other. The former, which links the mother to the daughter, comes in conflict with the latter, which links the mother's brother to the sister's son. (In other words, a woman inherits property from her mother and passes it on to her daughter, while a man controls his sister's property and passes on control to his sister's son. Thus, inheritance passes from mother to daughter whereas control passes from (maternal) uncle to nephew.

Khasi matrilineality generates intense role conflict for men. They are torn between their responsibilities to their natal house on the one hand, and to their wife and children on the other. In a way, the strain generated by such role conflict affects Khasi women more intensely. A man can never be fully assured that her husband does not find his sister's house a more congenial place than her own. Similarly a sister will be apprehensive about her brother's commitment to her welfare because the wife with whom he lives can always pull him away from his responsibilities to his natal house.

The women are more adversely affected than men by the role conflict generated in the Khasi matrilineal system not only because men wield power and women are deprived of it, but also because the system is more lenient to men when there is a transgression of rules. Women possess only token authority in Khasi society; it is men who are the defacto power holders. The system is indeed weighted in favour of male matri-kin rather than male patri-kin. (In other words, despite matrilineality, men are the power holders in Khasi society; the only difference is that a man's relatives on his mother's side matter more than his relatives on his father's side.)

Khasi family system generates role conflict for :

- (1) men and women
- (2) men
- (3) women
- (4) children

Options :

54025065097. 1

54025065098. 2

54025065099. 3

54025065100. 4

Question Number : 195 Question Id : 54025016275 Question Type : MCQ Option Shuffling : No

Is Question Mandatory : No Calculator : None Response Time : N.A Think Time : N.A

Minimum Instruction Time : 0

Correct Marks : 5 Wrong Marks : 1

Question Key Details :

Key	Value
Comprehension	Comp1

गद्यांश को पढ़ें और निम्नलिखित प्रश्न का उत्तर दें :

मेघालय उत्तराधिकार अधिनियम (मेघालय विधानसभा, जिसके सभी सदस्य पुरुष ही थे, द्वारा पारित) को 1986 में राष्ट्रपति से स्वीकृति मिली। अधिनियम विशेष तौर पर खासी और जैन्तिया जनजाति पर लागू होता है और 'उस खासी या जैन्तिया व्यक्ति पर मान्य है जो बुद्धि से सबल है और अल्पआयु नहीं है; उस व्यक्ति को अपनी खुद की बनाई हुए जायदाद की वसीयत बनाने का अधिकार है'। वसीयत बनाने की प्रथा, खासियों में नहीं है। खासी प्रथा मातृ वंशज के आधार पर जायदाद को अमुक स्त्री को सुपुर्द किए जाने की बात करती है।

खासियों में विशेषतः पढ़े-लिखे खासियों को ऐसा प्रतीत होता है कि उनके संबंधों और उत्तराधिकार के नियम, स्त्रियों के पक्ष में हैं और अपने आप में सीमित भी हैं। अतः यह अधिनियम खासी परंपरा में व्याप्त महिलाओं के पक्ष में किए गए पक्षपात को ठीक कर इस सीमितता को समाप्त करने का एक प्रयास है। यह परखने के लिए कि क्या ये प्रचलित बोधता-जो खासी परंपरा में स्त्रियों के प्रति पक्षपात की बात करती है, सही है कि नहीं, यह जरूरी है कि खासी मातृवंशीय व्यवस्था को व्यावहारिक लिंग-संबंधों और लिंग भूमिकाओं की परिभाषाओं के संदर्भ में देखा जाए।

कई विशेषज्ञों ने मातृवंशीय व्यवस्थाओं में अंतर्निहित विरोधाभासों पर ध्यान केंद्रित किया है। एक ऐसा विरोधाभास वंशानुक्रम की रेखा और उत्तराधिकार एवं नियंत्रण और सत्ता की संरचना के अलगाव से उत्पन्न होता है। पहला संदर्भ जो माँ और बेटी को जोड़ता है और दूसरे संदर्भ के आ जाने से प्रतिद्वंद्विता की उत्पत्ति होती है पहला संदर्भ जो माँ और भाई को बहन के बेटे से जोड़ता है (दूसरे शब्दों में, एक स्त्री अपने माँ से जायदाद उत्तराधिकार में पाती है और आगे अपनी बेटी को देती है, जबकि एक पुरुष अपनी बहन की जायदाद पर नियंत्रण रखता है, और वो नियंत्रण अपनी बहन के बेटे को देता है। इस तरह संपत्ति का कानूनी उत्तराधिकार तो माँ से बेटी को जाता है पर व्यावहारिक रूप में यह अधिकार मामा से भानजे को जाता है।)

खासी मातृवंश पुरुषों के लिए गहन भूमिका द्वंद्व की स्थिति उत्पन्न करता है। वो अपनी पत्नी और बच्चों एवं जन्म के घर की जिम्मेदारियों के बीच बँट जाते हैं। एक तरह से भूमि के-द्वंद्व द्वारा उत्पन्न इस तनाव का असर खासी स्त्रियों पर बहुत ज्यादा पड़ता है। एक स्त्री कभी सुनिश्चित नहीं कर सकती कि उसके पति को उसकी बहन का कल्याण ज्यादा लगता लगता है या अपना स्वयं का। उसकी तरह, बहन सोचेगी कि शादीशुदा भाई अपनी बहन के प्रति जिम्मेदारियाँ को भूल जाएगा।

खासी मातृवंशीय व्यवस्था में उत्पन्न भूमि के-द्वंद्व से पुरुषों की बजाय, अंततः स्त्रियाँ ज्यादा गहन रूप से प्रभावित होती हैं, सिर्फ इसलिए नहीं, क्योंकि पुरुष अधिकारों के स्वामी हैं और स्त्रियाँ इससे वंचित हैं पर इसलिए भी क्योंकि समाज पुरुषों को नियम तोड़ने पर उनको कम सजा देता है या नज़र अंदाज़ कर देता है। खासी समाज में स्त्रियों के पास सिर्फ नाम का अधिकार होता है - असली अधिकार पुरुषों के हाथ में होता है। हाँ, इतना जरूर है कि यह व्यवस्था पुरुष के मातृ नातेदार की तरफ झुकी हुई है न कि पितृ-नातेदार की तरफ। (दूसरे शब्दों में मातृवंश के बावजूद, पुरुष ही खासी समाज में शक्ति के स्वामी हैं; सिर्फ एक अंतर है कि एक पुरुष के लिए उसकी माँ की तरफ के रिश्तेदारों का उसके पिता की तरफ के रिश्तेदारों से ज्यादा महत्त्व होता है।)

खासी परिवार व्यवस्था भूमि के-द्वंद्व उत्पन्न करता है :

- (1) पुरुषों और महिलाओं के लिए
- (2) पुरुषों के लिए
- (3) महिलाओं के लिए
- (4) बच्चे के लिए

Options :

54025065097. 1
54025065098. 2
54025065099. 3
54025065100. 4

Sub-Section Id : 5402501146

Question Shuffling Allowed : No

Is Section Default? : null

Question Number : 196 Question Id : 54025016276 Question Type : MCQ Option Shuffling : No

Is Question Mandatory : No Calculator : None Response Time : N.A Think Time : N.A

Minimum Instruction Time : 0

Correct Marks : 5 Wrong Marks : 1

Question Key Details :

Key	Value
Comprehension	Comp2

Read the passage and answer the following questions given below :

These are indicators of the process of globalisation of agriculture, or the incorporation of agriculture into the larger global market - a process that has had direct effects on farmers and rural society. For instance, in some regions such as Punjab and Karnataka, farmers enter into contracts with multinational companies (such as Pepsi Co.) to grow certain crops (such as tomatoes and potatoes), which the companies then buy from them for processing or export. In such 'contract farming' systems, the company identifies the crop to be grown, provides the seeds and other inputs, as well as the know how and often also the working capital. In return, the farmer is assured of a market because the company guarantees that it will purchase the produce at a predetermined fixed price. Contract farming is very common now in the production of specialised items such as cut flowers, fruits such as grapes, figs and pomegranates, cotton, and oilseeds. While contract farming appears to provide financial security to farmers, it can also lead to greater insecurity as farmers become dependent on these companies for their livelihoods. Contract farming of export-oriented products such as flowers and gherkins also means that agricultural land is diverted away from food grain production. Contract farming has sociological significance in that it disengages many people from the production process and makes their own indigenous knowledge of agriculture irrelevant. In addition, contract farming caters primarily to the production of elite items, and because it usually requires high doses of fertilisers and pesticides, it is often not ecologically sustainable.

Contract farming happens for :

- (1) cash crops only
- (2) food crops only
- (3) oilseeds and cotton
- (4) food processing industry

Options :

54025065101. 1

54025065102. 2

54025065103. 3

54025065104. 4

Question Number : 196 Question Id : 54025016276 Question Type : MCQ Option Shuffling : No

Is Question Mandatory : No Calculator : None Response Time : N.A Think Time : N.A

Minimum Instruction Time : 0

Correct Marks : 5 Wrong Marks : 1

Question Key Details :

Key	Value
Comprehension	Comp2

गद्यांश को पढ़ें और निम्नलिखित प्रश्न का उत्तर दें :

ये कृषि के भूमंडलीकरण की प्रक्रिया अथवा कृषि को विस्तृत अंतर्राष्ट्रीय बाजार में सम्मिलित किए जाने के संकेत है वह प्रक्रिया जिसका किसानों और ग्रामीण समाज पर सीधा प्रभाव पड़ा है। उदाहरणार्थ पंजाब और कर्नाटक जैसे कुछ क्षेत्रों में किसानों ने बहुराष्ट्रीय कंपनियों (जैसे पेप्सी, कोक) से कुछ निश्चित फसलें (जैसे टमाटर और आलू) उगाने की संविदा दी गई है, जिन्हें ये कंपनियाँ उनसे प्रसंस्करण अथवा निर्यात हेतु खरीद लेती हैं। ऐसी 'संविदा खेती' पद्धति में, कंपनियाँ उगाई जाने वाली फसलों की पहचान करती हैं, बीज तथा अन्य वस्तुएँ निवेशों के रूप में उपलब्ध करवाती हैं, साथ ही जानकारी तथा अक्सर कार्यशील पूँजी भी देती है। बदले में, किसान बाजार की ओर से आश्वस्त रहता है क्योंकि कंपनी पूर्वनिर्धारित तय मूल्य पर उपज के क्रय का आश्वासन देती है। 'संविदा खेती' कुछ विशिष्ट मदों जैसे फूल (कट फ्लावर), अंगूर, अंजीर तथा अनार जैसे फल, कपास तथा तिलहन के लिए आजकल बहुत सामान्य है। जहाँ 'संविदा खेती' किसानों को वित्तीय सुरक्षा प्रदान करती है वहीं यह किसानों के लिए अधिक असुरक्षित भी बन जाती है, क्योंकि वे अपने जीवन व्यापार के लिए इन कंपनियों पर निर्भर हो जाते हैं। निर्यातोन्मुखी उत्पाद जैसे फूल और खीरे हेतु 'संविदा खेती' का अर्थ यह भी है कि कृषि भूमि का प्रयोग खाद्यान्न उत्पादन से हटकर किया जाता है। 'संविदा खेती' का समाजशास्त्रीय महत्त्व यह है कि यह बहुत से व्यक्तियों को उत्पादन प्रक्रिया से अलग कर देती है तथा उनके अपने देशीय कृषि ज्ञान को निर्थक बना देती है। इसके अतिरिक्त, 'संविदा खेती' मूलरूप से अभिजात मदों का उत्पादन करती है तथा चूँकि यह अक्सर खाद तथा कीटनाशक का उच्च मात्रा में प्रयोग करते हैं, इसलिए यह बहुधा पर्यावरणीय दृष्टि से सुरक्षित नहीं होती है।

संविदा खेती होती है :

- (1) केवल नकदी फसलें
- (2) खाद्य फसल केवल
- (3) तिलहन और सूती
- (4) खाद्य प्रसंस्करण उद्योग

Options :

54025065101. 1

54025065102. 2

54025065103. 3

54025065104. 4

Question Number : 197 Question Id : 54025016277 Question Type : MCQ Option Shuffling : No

Is Question Mandatory : No Calculator : None Response Time : N.A Think Time : N.A

Minimum Instruction Time : 0

Correct Marks : 5 Wrong Marks : 1

Question Key Details :

Key	Value
Comprehension	Comp2

Read the passage and answer the following questions given below :

These are indicators of the process of globalisation of agriculture, or the incorporation of agriculture into the larger global market - a process that has had direct effects on farmers and rural society. For instance, in some regions such as Punjab and Karnataka, farmers enter into contracts with multinational companies (such as Pepsi Co.) to grow certain crops (such as tomatoes and potatoes), which the companies then buy from them for processing or export. In such 'contract farming' systems, the company identifies the crop to be grown, provides the seeds and other inputs, as well as the know how and often also the working capital. In return, the farmer is assured of a market because the company guarantees that it will purchase the produce at a predetermined fixed price. Contract farming is very common now in the production of specialised items such as cut flowers, fruits such as grapes, figs and pomegranates, cotton, and oilseeds. While contract farming appears to provide financial security to farmers, it can also lead to greater insecurity as farmers become dependent on these companies for their livelihoods. Contract farming of export-oriented products such as flowers and gherkins also means that agricultural land is diverted away from food grain production. Contract farming has sociological significance in that it disengages many people from the production process and makes their own indigenous knowledge of agriculture irrelevant. In addition, contract farming caters primarily to the production of elite items, and because it usually requires high doses of fertilisers and pesticides, it is often not ecologically sustainable.

The change in the nature of relationships between landlords and agricultural workers has been described by the sociologist Jan Breman as :

- (1) Shift from patronage to exploitation
- (2) Shift from ownership to tenancy
- (3) Withdrawal from subsistence farming
- (4) Withdrawal from agriculture

Options :

54025065105. 1

54025065106. 2

54025065107. 3

54025065108. 4

Question Key Details :

Key	Value
Comprehension	Comp2

गद्यांश को पढ़ें और निम्नलिखित प्रश्न का उत्तर दें :

ये कृषि के भूमंडलीकरण की प्रक्रिया अथवा कृषि को विस्तृत अंतर्राष्ट्रीय बाजार में सम्मिलित किए जाने के संकेत है वह प्रक्रिया जिसका किसानों और ग्रामीण समाज पर सीधा प्रभाव पड़ा है। उदाहरणार्थ पंजाब और कर्नाटक जैसे कुछ क्षेत्रों में किसानों ने बहुराष्ट्रीय कंपनियों (जैसे पेप्सी, कोक) से कुछ निश्चित फसलों (जैसे टमाटर और आलू) उगाने की संविदा दी गई है, जिन्हें ये कंपनियाँ उनसे प्रसंस्करण अथवा निर्यात हेतु खरीद लेती हैं। ऐसी 'संविदा खेती' पद्धति में, कंपनियाँ उगाई जाने वाली फसलों की पहचान करती हैं, बीज तथा अन्य वस्तुएँ निवेशों के रूप में उपलब्ध करवाती हैं, साथ ही जानकारी तथा अक्सर कार्यशील पूँजी भी देती है। बदले में, किसान बाजार की ओर से आश्वस्त रहता है क्योंकि कंपनी पूर्वनिर्धारित तय मूल्य पर उपज के क्रय का आश्वासन देती है। 'संविदा खेती' कुछ विशिष्ट मदों जैसे फूल (कट फ्लावर), अंगूर, अंजीर तथा अनार जैसे फल, कपास तथा तिलहन के लिए आजकल बहुत सामान्य है। जहाँ 'संविदा खेती' किसानों को वित्तीय सुरक्षा प्रदान करती है वहीं यह किसानों के लिए अधिक असुरक्षित भी बन जाती है, क्योंकि वे अपने जीवन व्यापार के लिए इन कंपनियों पर निर्भर हो जाते हैं। निर्यातोन्मुखी उत्पाद जैसे फूल और खीरे हेतु 'संविदा खेती' का अर्थ यह भी है कि कृषि भूमि का प्रयोग खाद्यान्न उत्पादन से हटकर किया जाता है। 'संविदा खेती' का समाजशास्त्रीय महत्त्व यह है कि यह बहुत से व्यक्तियों को उत्पादन प्रक्रिया से अलग कर देती है तथा उनके अपने देशीय कृषि ज्ञान को निर्थक बना देती है। इसके अतिरिक्त, 'संविदा खेती' मूलरूप से अभिजात मदों का उत्पादन करती है तथा चूँकि यह अक्सर खाद तथा कीटनाशक का उच्च मात्रा में प्रयोग करते हैं, इसलिए यह बहुधा पर्यावरणीय दृष्टि से सुरक्षित नहीं होती है।

जमींदारों और कृषि श्रमिकों के बीच संबंधों की प्रकृति में परिवर्तन को समाजशास्त्री जेन ब्रेमेन द्वारा वर्णित किया गया है :

- (1) संरक्षण से शोषण में परिवर्तन
- (2) स्वामित्व से किरायेदारी में परिवर्तन
- (3) निर्वाह खेती से निकासी
- (4) कृषि से निकासी

Options :

54025065106. 2

54025065107. 3

54025065108. 4

Question Number : 198 Question Id : 54025016278 Question Type : MCQ Option Shuffling : No

Is Question Mandatory : No Calculator : None Response Time : N.A Think Time : N.A

Minimum Instruction Time : 0

Correct Marks : 5 Wrong Marks : 1

Question Key Details :

Key	Value
Comprehension	Comp2

Read the passage and answer the following questions given below :

These are indicators of the process of globalisation of agriculture, or the incorporation of agriculture into the larger global market - a process that has had direct effects on farmers and rural society. For instance, in some regions such as Punjab and Karnataka, farmers enter into contracts with multinational companies (such as Pepsi Co.) to grow certain crops (such as tomatoes and potatoes), which the companies then buy from them for processing or export. In such 'contract farming' systems, the company identifies the crop to be grown, provides the seeds and other inputs, as well as the know how and often also the working capital. In return, the farmer is assured of a market because the company guarantees that it will purchase the produce at a predetermined fixed price. Contract farming is very common now in the production of specialised items such as cut flowers, fruits such as grapes, figs and pomegranates, cotton, and oilseeds. While contract farming appears to provide financial security to farmers, it can also lead to greater insecurity as farmers become dependent on these companies for their livelihoods. Contract farming of export-oriented products such as flowers and gherkins also means that agricultural land is diverted away from food grain production. Contract farming has sociological significance in that it disengages many people from the production process and makes their own indigenous knowledge of agriculture irrelevant. In addition, contract farming caters primarily to the production of elite items, and because it usually requires high doses of fertilisers and pesticides, it is often not ecologically sustainable.

Who decides the crop to be grown under contract farming ?

- (1) Farmer
- (2) Tenants
- (3) Labourer
- (4) Company

Options :

54025065109. 1

54025065110. 2

54025065111. 3

54025065112. 4

Question Number : 198 Question Id : 54025016278 Question Type : MCQ Option Shuffling : No

Is Question Mandatory : No Calculator : None Response Time : N.A Think Time : N.A

Minimum Instruction Time : 0

Correct Marks : 5 Wrong Marks : 1

Question Key Details :

Key	Value
Comprehension	Comp2

गद्यांश को पढ़ें और निम्नलिखित प्रश्न का उत्तर दें :

ये कृषि के भूमंडलीकरण की प्रक्रिया अथवा कृषि को विस्तृत अंतर्राष्ट्रीय बाजार में सम्मिलित किए जाने के संकेत है वह प्रक्रिया जिसका किसानों और ग्रामीण समाज पर सीधा प्रभाव पड़ा है। उदाहरणार्थ पंजाब और कर्नाटक जैसे कुछ क्षेत्रों में किसानों ने बहुराष्ट्रीय कंपनियों (जैसे पेप्सी, कोक) से कुछ निश्चित फसलों (जैसे टमाटर और आलू) उगाने की सविदा दी गई है, जिन्हें ये कंपनियाँ उनसे प्रसंस्करण अथवा निर्यात हेतु खरीद लेती हैं। ऐसी 'सविदा खेती' पद्धति में, कंपनियाँ उगाई जाने वाली फसलों की पहचान करती हैं, बीज तथा अन्य वस्तुएँ निवेशों के रूप में उपलब्ध करवाती हैं, साथ ही जानकारी तथा अक्सर कार्यशील पूँजी भी देती है। बदले में, किसान बाजार की ओर से आश्वस्त रहता है क्योंकि कंपनी पूर्वनिर्धारित तय मूल्य पर उपज के क्रय का आश्वासन देती है। 'सविदा खेती' कुछ विशिष्ट मदों जैसे फूल (कट फ्लावर), अंगूर, अंजीर तथा अनार जैसे फल, कपास तथा तिलहन के लिए आजकल बहुत सामान्य है। जहाँ 'सविदा खेती' किसानों को वित्तीय सुरक्षा प्रदान करती है वहीं यह किसानों के लिए अधिक असुरक्षित भी बन जाती है, क्योंकि वे अपने जीवन व्यापार के लिए इन कंपनियों पर निर्भर हो जाते हैं। निर्यातोन्मुखी उत्पाद जैसे फूल और खीरे हेतु 'सविदा खेती' का अर्थ यह भी है कि कृषि भूमि का प्रयोग खाद्यान्न उत्पादन से हटकर किया जाता है। 'सविदा खेती' का समाजशास्त्रीय महत्त्व यह है कि यह बहुत से व्यक्तियों को उत्पादन प्रक्रिया से अलग कर देती है तथा उनके अपने देशीय कृषि ज्ञान को निर्थक बना देती है। इसके अतिरिक्त, 'सविदा खेती' मूलरूप से अभिजात मदों का उत्पादन करती है तथा चूँकि यह अक्सर खाद तथा कीटनाशक का उच्च मात्रा में प्रयोग करते हैं, इसलिए यह बहुधा पर्यावरणीय दृष्टि से सुरक्षित नहीं होती है।

फसलों का सविदा खेती के अंतर्गत उत्पादन करने का निर्णय किसके द्वारा लिया जाता है?

- (1) कृषक
- (2) पट्टेदार
- (3) श्रमिक
- (4) कंपनी

Options :

54025065109. 1

54025065110. 2

54025065111. 3

54025065112. 4

Question Number : 199 Question Id : 54025016279 Question Type : MCQ Option Shuffling : No

Is Question Mandatory : No Calculator : None Response Time : N.A Think Time : N.A

Minimum Instruction Time : 0

Correct Marks : 5 Wrong Marks : 1

Question Key Details :

Key	Value
Comprehension	Comp2

Read the passage and answer the following questions given below :

These are indicators of the process of globalisation of agriculture, or the incorporation of agriculture into the larger global market - a process that has had direct effects on farmers and rural society. For instance, in some regions such as Punjab and Karnataka, farmers enter into contracts with multinational companies (such as Pepsi Co.) to grow certain crops (such as tomatoes and potatoes), which the companies then buy from them for processing or export. In such 'contract farming' systems, the company identifies the crop to be grown, provides the seeds and other inputs, as well as the know how and often also the working capital. In return, the farmer is assured of a market because the company guarantees that it will purchase the produce at a predetermined fixed price. Contract farming is very common now in the production of specialised items such as cut flowers, fruits such as grapes, figs and pomegranates, cotton, and oilseeds. While contract farming appears to provide financial security to farmers, it can also lead to greater insecurity as farmers become dependent on these companies for their livelihoods. Contract farming of export-oriented products such as flowers and gherkins also means that agricultural land is diverted away from food grain production. Contract farming has sociological significance in that it disengages many people from the production process and makes their own indigenous knowledge of agriculture irrelevant. In addition, contract farming caters primarily to the production of elite items, and because it usually requires high doses of fertilisers and pesticides, it is often not ecologically sustainable.

Out of the following which is not a demerit of contract farming ?

- (1) Provides financial security to the farmer
- (2) Indigenous knowledge becomes irrelevant regarding agriculture
- (3) Ecologically not sustainable
- (4) Does not produce for the masses

Options :

54025065113. 1

54025065114. 2

54025065115. 3

54025065116. 4

Question Number : 199 Question Id : 54025016279 Question Type : MCQ Option Shuffling : No

Is Question Mandatory : No Calculator : None Response Time : N.A Think Time : N.A

Minimum Instruction Time : 0

Correct Marks : 5 Wrong Marks : 1

Question Key Details :

Key	Value
Comprehension	Comp2

गद्यांश को पढ़ें और निम्नलिखित प्रश्न का उत्तर दें :

ये कृषि के भूमंडलीकरण की प्रक्रिया अथवा कृषि को विस्तृत अंतर्राष्ट्रीय बाजार में सम्मिलित किए जाने के संकेत है वह प्रक्रिया जिसका किसानों और ग्रामीण समाज पर सीधा प्रभाव पड़ा है। उदाहरणार्थ पंजाब और कर्नाटक जैसे कुछ क्षेत्रों में किसानों ने बहुराष्ट्रीय कंपनियों (जैसे पेप्सी, कोक) से कुछ निश्चित फसलों (जैसे टमाटर और आलू) उगाने की सविदा दी गई है, जिन्हें ये कंपनियाँ उनसे प्रसंस्करण अथवा निर्यात हेतु खरीद लेती हैं। ऐसी 'सविदा खेती' पद्धति में, कंपनियाँ उगाई जाने वाली फसलों की पहचान करती हैं, बीज तथा अन्य वस्तुएँ निवेशों के रूप में उपलब्ध करवाती हैं, साथ ही जानकारी तथा अक्सर कार्यशील पूँजी भी देती है। बदले में, किसान बाजार की ओर से आश्वस्त रहता है क्योंकि कंपनी पूर्वनिर्धारित तय मूल्य पर उपज के क्रय का आश्वासन देती है। 'सविदा खेती' कुछ विशिष्ट मदों जैसे फूल (कट फ्लावर), अंगूर, अंजीर तथा अनार जैसे फल, कपास तथा तिलहन के लिए आजकल बहुत सामान्य है। जहाँ 'सविदा खेती' किसानों को वित्तीय सुरक्षा प्रदान करती है वहीं यह किसानों के लिए अधिक असुरक्षित भी बन जाती है, क्योंकि वे अपने जीवन व्यापार के लिए इन कंपनियों पर निर्भर हो जाते हैं। निर्यातोन्मुखी उत्पाद जैसे फूल और खीरे हेतु 'सविदा खेती' का अर्थ यह भी है कि कृषि भूमि का प्रयोग खाद्यान्न उत्पादन से हटकर किया जाता है। 'सविदा खेती' का समाजशास्त्रीय महत्त्व यह है कि यह बहुत से व्यक्तियों को उत्पादन प्रक्रिया से अलग कर देती है तथा उनके अपने देशीय कृषि ज्ञान को निर्थक बना देती है। इसके अतिरिक्त, 'सविदा खेती' मूलरूप से अभिजात मदों का उत्पादन करती है तथा चूँकि यह अक्सर खाद तथा कीटनाशक का उच्च मात्रा में प्रयोग करते हैं, इसलिए यह बहुधा पर्यावरणीय दृष्टि से सुरक्षित नहीं होती है।

निम्नलिखित में से कौन-सा सविदा खेती की कमियां नहीं है?

- (1) किसानों को वित्तीय सुरक्षा का प्रावधान
- (2) कृषि के संबंध में देशज ज्ञान अप्रासंगिक होना
- (3) पारिस्थितिकी सतत नहीं है
- (4) जनता के लिए उत्पादन नहीं करता है

Options :

54025065113. 1

54025065114. 2

54025065115. 3

54025065116. 4

Question Number : 200 Question Id : 54025016280 Question Type : MCQ Option Shuffling : No

Is Question Mandatory : No Calculator : None Response Time : N.A Think Time : N.A

Minimum Instruction Time : 0

Correct Marks : 5 Wrong Marks : 1

Question Key Details :

Key	Value
Comprehension	Comp2

Read the passage and answer the following questions given below :

These are indicators of the process of globalisation of agriculture, or the incorporation of agriculture into the larger global market - a process that has had direct effects on farmers and rural society. For instance, in some regions such as Punjab and Karnataka, farmers enter into contracts with multinational companies (such as Pepsi Co.) to grow certain crops (such as tomatoes and potatoes), which the companies then buy from them for processing or export. In such 'contract farming' systems, the company identifies the crop to be grown, provides the seeds and other inputs, as well as the know how and often also the working capital. In return, the farmer is assured of a market because the company guarantees that it will purchase the produce at a predetermined fixed price. Contract farming is very common now in the production of specialised items such as cut flowers, fruits such as grapes, figs and pomegranates, cotton, and oilseeds. While contract farming appears to provide financial security to farmers, it can also lead to greater insecurity as farmers become dependent on these companies for their livelihoods. Contract farming of export-oriented products such as flowers and gherkins also means that agricultural land is diverted away from food grain production. Contract farming has sociological significance in that it disengages many people from the production process and makes their own indigenous knowledge of agriculture irrelevant. In addition, contract farming caters primarily to the production of elite items, and because it usually requires high doses of fertilisers and pesticides, it is often not ecologically sustainable.

The system described in the passage is possible due to which process ?

- (1) Globalisation
- (2) Contract Farming
- (3) Transnational Corporation
- (4) Glocalisation

Options :

54025065117. 1

54025065118. 2

54025065119. 3

54025065120. 4

Question Number : 200 Question Id : 54025016280 Question Type : MCQ Option Shuffling : No

Is Question Mandatory : No Calculator : None Response Time : N.A Think Time : N.A

Minimum Instruction Time : 0

Correct Marks : 5 Wrong Marks : 1

Question Key Details :

Key	Value
Comprehension	Comp2

गद्यांश को पढ़ें और निम्नलिखित प्रश्न का उत्तर दें :

ये कृषि के भूमंडलीकरण की प्रक्रिया अथवा कृषि को विस्तृत अंतर्राष्ट्रीय बाजार में सम्मिलित किए जाने के संकेत है वह प्रक्रिया जिसका किसानों और ग्रामीण समाज पर सीधा प्रभाव पड़ा है। उदाहरणार्थ पंजाब और कर्नाटक जैसे कुछ क्षेत्रों में किसानों ने बहुराष्ट्रीय कंपनियों (जैसे पेप्सी, कोक) से कुछ निश्चित फसलों (जैसे टमाटर और आलू) उगाने की सविदा दी गई है, जिन्हें ये कंपनियाँ उनसे प्रसंस्करण अथवा निर्यात हेतु खरीद लेती हैं। ऐसी 'सविदा खेती' पद्धति में, कंपनियाँ उगाई जाने वाली फसलों की पहचान करती हैं, बीज तथा अन्य वस्तुएँ निवेशों के रूप में उपलब्ध करवाती हैं, साथ ही जानकारी तथा अक्सर कार्यशील पूँजी भी देती है। बदले में, किसान बाजार की ओर से आश्वस्त रहता है क्योंकि कंपनी पूर्वनिर्धारित तय मूल्य पर उपज के क्रय का आश्वासन देती है। 'सविदा खेती' कुछ विशिष्ट मदों जैसे फूल (कट फ्लावर), अंगूर, अंजीर तथा अनार जैसे फल, कपास तथा तिलहन के लिए आजकल बहुत सामान्य है। जहाँ 'सविदा खेती' किसानों को वित्तीय सुरक्षा प्रदान करती है वहीं यह किसानों के लिए अधिक असुरक्षित भी बन जाती है, क्योंकि वे अपने जीवन व्यापार के लिए इन कंपनियों पर निर्भर हो जाते हैं। निर्यातोन्मुखी उत्पाद जैसे फूल और खीरे हेतु 'सविदा खेती' का अर्थ यह भी है कि कृषि भूमि का प्रयोग खाद्यान्न उत्पादन से हटकर किया जाता है। 'सविदा खेती' का समाजशास्त्रीय महत्त्व यह है कि यह बहुत से व्यक्तियों को उत्पादन प्रक्रिया से अलग कर देती है तथा उनके अपने देशीय कृषि ज्ञान को निर्थक बना देती है। इसके अतिरिक्त, 'सविदा खेती' मूलरूप से अभिजात मदों का उत्पादन करती है तथा चूँकि यह अक्सर खाद तथा कीटनाशक का उच्च मात्रा में प्रयोग करते हैं, इसलिए यह बहुधा पर्यावरणीय दृष्टि से सुरक्षित नहीं होती है।

गद्यांश में वर्णित प्रणाली किस प्रक्रिया के कारण संभव है?

- (1) भूमंडलीकरण
- (2) सविदा खेती
- (3) बहुराष्ट्रीय निगम
- (4) भू-स्थानीकरण

Options :

54025065117. 1

54025065118. 2

54025065119. 3

54025065120. 4

General Test

Group Number :

5

Group Id :	540250338
Group Maximum Duration :	60
Group Minimum Duration :	60
Show Attended Group? :	No
Edit Attended Group? :	No
Break time :	0
Group Marks :	250
Is this Group for Examiner? :	No
Examiner permission :	Cant View
Show Progress Bar? :	No

General Test

Section Id :	540250408
Section Number :	1
Section type :	Online
Mandatory or Optional :	Mandatory
Number of Questions :	60
Number of Questions to be attempted :	50
Section Marks :	250
Enable Mark as Answered Mark for Review and Clear Response :	Yes
Maximum Instruction Time :	0
Sub-Section Number :	1
Sub-Section Id :	5402501147
Question Shuffling Allowed :	Yes
Is Section Default? :	null

**Question Number : 201 Question Id : 54025016121 Question Type : MCQ Option Shuffling : No
Is Question Mandatory : No Calculator : None Response Time : N.A Think Time : N.A**

Minimum Instruction Time : 0

Correct Marks : 5 Wrong Marks : 1

Question Key Details :

Key	Value
Comprehension	MCQ

The curved surface area of a right circular cone of height 12 cm and base diameter 10 cm is :

- (1) $65 \pi \text{ cm}^2$
- (2) $75 \pi \text{ cm}^2$
- (3) $130 \pi \text{ cm}^2$
- (4) $100 \pi \text{ cm}^2$

Options :

54025064481. 1

54025064482. 2

54025064483. 3

54025064484. 4

Question Number : 201 Question Id : 54025016121 Question Type : MCQ Option Shuffling : No

Is Question Mandatory : No Calculator : None Response Time : N.A Think Time : N.A

Minimum Instruction Time : 0

Correct Marks : 5 Wrong Marks : 1

Question Key Details :

Key	Value
Comprehension	MCQ

12 सेंमी. ऊँचाई और 10 सेंमी. आधार व्यास के लंब वृत्तीय शंकु का वक्र पृष्ठ क्षेत्रफल है :

- (1) $65 \pi \text{ सेंमी.}^2$
- (2) $75 \pi \text{ सेंमी.}^2$
- (3) $130 \pi \text{ सेंमी.}^2$
- (4) $100 \pi \text{ सेंमी.}^2$

Options :

54025064481. 1

54025064482. 2

54025064483. 3

54025064484. 4

Question Number : 202 Question Id : 54025016122 Question Type : MCQ Option Shuffling : No Is Question Mandatory : No Calculator : None Response Time : N.A Think Time : N.A Minimum Instruction Time : 0

Correct Marks : 5 Wrong Marks : 1

Question Key Details :

Key	Value
Comprehension	MCQ

Cost of 6 pens and 9 pencils is ₹ 126. What is the cost of 8 pens and 12 pencils ?

- (1) ₹ 156
- (2) ₹ 159
- (3) ₹ 162
- (4) ₹ 168

Options :

54025064485. 1

54025064486. 2

54025064487. 3

54025064488. 4

Question Number : 202 Question Id : 54025016122 Question Type : MCQ Option Shuffling : No Is Question Mandatory : No Calculator : None Response Time : N.A Think Time : N.A Minimum Instruction Time : 0

Correct Marks : 5 Wrong Marks : 1

Question Key Details :

Key	Value
Comprehension	MCQ

यदि 6 पेन और 9 पेंसिल की कीमत ₹ 126 है, तो 8 पेन और 12 पेंसिल की कीमत कितनी होगी?

- (1) ₹ 156
- (2) ₹ 159
- (3) ₹ 162
- (4) ₹ 168

Options :

54025064485. 1

54025064486. 2

54025064487. 3

54025064488. 4

Question Number : 203 Question Id : 54025016123 Question Type : MCQ Option Shuffling : No

Is Question Mandatory : No Calculator : None Response Time : N.A Think Time : N.A

Minimum Instruction Time : 0

Correct Marks : 5 Wrong Marks : 1

Question Key Details :

Key	Value
Comprehension	MCQ

Find the 18th and nth term of the A.P. given by :

8, 13, 18, . . .

- (1) 80, $3 + 5n$
- (2) 93, $3 + 5n$
- (3) 65, $3 - 2n$
- (4) 40, $5 + 3n$

Options :

54025064489. 1

54025064490. 2

54025064491. 3

54025064492. 4

Question Number : 203 Question Id : 54025016123 Question Type : MCQ Option Shuffling : No

Is Question Mandatory : No Calculator : None Response Time : N.A Think Time : N.A

Minimum Instruction Time : 0

Correct Marks : 5 Wrong Marks : 1

Question Key Details :

Key	Value
Comprehension	MCQ

दी गई समांतर श्रेणी का 18^{वाँ} और n^{वाँ} पद ज्ञात कीजिए :

8, 13, 18, . . .

(1) 80, $3 + 5n$

(2) 93, $3 + 5n$

(3) 65, $3 - 2n$

(4) 40, $5 + 3n$

Options :

54025064489. 1

54025064490. 2

54025064491. 3

54025064492. 4

Question Number : 204 Question Id : 54025016124 Question Type : MCQ Option Shuffling : No

Is Question Mandatory : No Calculator : None Response Time : N.A Think Time : N.A

Minimum Instruction Time : 0

Correct Marks : 5 Wrong Marks : 1

Question Key Details :

Key	Value
Comprehension	MCQ

If a person travel $10\frac{1}{5}$ Km in 3h, then the distance covered by him in 5 h will be :

- (1) 17 km
- (2) 22 km
- (3) 20 km
- (4) 30 km

Options :

54025064493. 1

54025064494. 2

54025064495. 3

54025064496. 4

Question Number : 204 Question Id : 54025016124 Question Type : MCQ Option Shuffling : No

Is Question Mandatory : No Calculator : None Response Time : N.A Think Time : N.A

Minimum Instruction Time : 0

Correct Marks : 5 Wrong Marks : 1

Question Key Details :

Key	Value
Comprehension	MCQ

यदि कोई व्यक्ति 3 घंटे में $10\frac{1}{5}$ किमी. दूरी तय करता है, तो उसके द्वारा 5 घंटे में कितनी दूरी तय की जाएगी ?

- (1) 17 किमी.
- (2) 22 किमी.
- (3) 20 किमी.
- (4) 30 किमी.

Options :

54025064493. 1

54025064494. 2

54025064495. 3

54025064496. 4

**Question Number : 205 Question Id : 54025016125 Question Type : MCQ Option Shuffling : No
Is Question Mandatory : No Calculator : None Response Time : N.A Think Time : N.A
Minimum Instruction Time : 0**

Correct Marks : 5 Wrong Marks : 1

Question Key Details :

Key	Value
Comprehension	MCQ

Speed of the boat along the current and against the current are 10 km/h and 8 km/h respectively.
What is the speed of the current ?

- (1) 4
- (2) 3
- (3) 2
- (4) 1

Options :

54025064497. 1

54025064498. 2

54025064499. 3

54025064500. 4

**Question Number : 205 Question Id : 54025016125 Question Type : MCQ Option Shuffling : No
Is Question Mandatory : No Calculator : None Response Time : N.A Think Time : N.A
Minimum Instruction Time : 0**

Correct Marks : 5 Wrong Marks : 1

Question Key Details :

Key	Value
Comprehension	MCQ

यदि किसी नौका की गति धारा के अनुकूल तथा धारा के विपरीत क्रमशः 10 किमी./घं. और 8 किमी./घं. है, तो धारा की गति कितनी है?

- (1) 4
- (2) 3
- (3) 2
- (4) 1

Options :

54025064497. 1

54025064498. 2

54025064499. 3

54025064500. 4

Question Number : 206 Question Id : 54025016126 Question Type : MCQ Option Shuffling : No

Is Question Mandatory : No Calculator : None Response Time : N.A Think Time : N.A

Minimum Instruction Time : 0

Correct Marks : 5 Wrong Marks : 1

Question Key Details :

Key	Value
Comprehension	MCQ

Find the co-ordinate of the mid point of a line which joins P(2, -1) and Q(-3, 4) :

(1) $\left(-\frac{1}{2}, \frac{3}{2}\right)$

(2) $\left(\frac{3}{2}, \frac{1}{2}\right)$

(3) $\left(\frac{2}{3}, \frac{3}{2}\right)$

(4) $\left(-\frac{5}{2}, -\frac{1}{2}\right)$

Options :

54025064501. 1

54025064502. 2

54025064503. 3

54025064504. 4

Question Number : 206 Question Id : 54025016126 Question Type : MCQ Option Shuffling : No

Is Question Mandatory : No Calculator : None Response Time : N.A Think Time : N.A

Minimum Instruction Time : 0

Correct Marks : 5 Wrong Marks : 1

Question Key Details :

Key	Value
Comprehension	MCQ

P(2, -1) और Q(-3, 4) बिंदुओं के योग के मध्य बिंदु का निर्देशांक ज्ञात कीजिए :

(1) $\left(-\frac{1}{2}, \frac{3}{2}\right)$

(2) $\left(\frac{3}{2}, \frac{1}{2}\right)$

(3) $\left(\frac{2}{3}, \frac{3}{2}\right)$

(4) $\left(-\frac{5}{2}, -\frac{1}{2}\right)$

Options :

54025064501. 1

54025064502. 2

54025064503. 3

54025064504. 4

Question Number : 207 Question Id : 54025016127 Question Type : MCQ Option Shuffling : No

Is Question Mandatory : No Calculator : None Response Time : N.A Think Time : N.A

Minimum Instruction Time : 0

Correct Marks : 5 Wrong Marks : 1

Question Key Details :

Key	Value
Comprehension	MCQ

How many 3-letter words can be formed from the letters of the word 'OBJECTS' if repetition is not allowed ?

- (1) 35
- (2) 120
- (3) 210
- (4) 840

Options :

- 54025064505. 1
- 54025064506. 2
- 54025064507. 3
- 54025064508. 4

Question Number : 207 Question Id : 54025016127 Question Type : MCQ Option Shuffling : No

Is Question Mandatory : No Calculator : None Response Time : N.A Think Time : N.A

Minimum Instruction Time : 0

Correct Marks : 5 Wrong Marks : 1

Question Key Details :

Key	Value
Comprehension	MCQ

यदि पुनरावृत्ति की अनुमति न हो, तो 'OBJECTS' शब्द के अक्षरों से 3 - अक्षर के कितने शब्द बनाये जा सकते हैं?

- (1) 35
- (2) 120
- (3) 210
- (4) 840

Options :

- 54025064505. 1
- 54025064506. 2

54025064507. 3

54025064508. 4

Question Number : 208 Question Id : 54025016128 Question Type : MCQ Option Shuffling : No

Is Question Mandatory : No Calculator : None Response Time : N.A Think Time : N.A

Minimum Instruction Time : 0

Correct Marks : 5 Wrong Marks : 1

Question Key Details :

Key	Value
Comprehension	MCQ

How many chords can be drawn through 5 points on a circle ?

- (1) 5
- (2) 10
- (3) 20
- (4) 60

Options :

54025064509. 1

54025064510. 2

54025064511. 3

54025064512. 4

Question Number : 208 Question Id : 54025016128 Question Type : MCQ Option Shuffling : No

Is Question Mandatory : No Calculator : None Response Time : N.A Think Time : N.A

Minimum Instruction Time : 0

Correct Marks : 5 Wrong Marks : 1

Question Key Details :

Key	Value
Comprehension	MCQ

किसी वृत्त पर 5 बिंदुओं द्वारा कितने चाप कर्ण खींचे जा सकते हैं?

- (1) 5
- (2) 10
- (3) 20
- (4) 60

Options :

54025064509. 1

54025064510. 2

54025064511. 3

54025064512. 4

Question Number : 209 Question Id : 54025016129 Question Type : MCQ Option Shuffling : No

Is Question Mandatory : No Calculator : None Response Time : N.A Think Time : N.A

Minimum Instruction Time : 0

Correct Marks : 5 Wrong Marks : 1

Question Key Details :

Key	Value
Comprehension	MCQ

Two pipes A and B can fill a tank in 10 h and 15 h Respectively. Find the time taken to fill the tank when both the pipes are turned on simultaneously :

- (1) 5 h
- (2) 6 h
- (3) 8 h
- (4) 12 h

Options :

54025064513. 1

54025064514. 2

54025064515. 3

54025064516. 4

Question Number : 209 Question Id : 54025016129 Question Type : MCQ Option Shuffling : No

Is Question Mandatory : No Calculator : None Response Time : N.A Think Time : N.A

Minimum Instruction Time : 0

Correct Marks : 5 Wrong Marks : 1

Question Key Details :

Key	Value
Comprehension	MCQ

यदि A और B दो पाइपें किसी टंकी को क्रमशः 10 घंटे और 15 घंटे में भर सकती हैं। जब दोनों पाइपों को एक साथ खोल दिया जाय तो टंकी भरने में कितना समय लगेगा ?

- (1) 5 घंटे
- (2) 6 घंटे
- (3) 8 घंटे
- (4) 12 घंटे

Options :

54025064513. 1

54025064514. 2

54025064515. 3

54025064516. 4

Question Number : 210 Question Id : 54025016130 Question Type : MCQ Option Shuffling : No

Is Question Mandatory : No Calculator : None Response Time : N.A Think Time : N.A

Minimum Instruction Time : 0

Correct Marks : 5 Wrong Marks : 1

Question Key Details :

Key	Value
Comprehension	MCQ

At what rate of interest ₹ 1,200 becomes ₹ 1,323 in 2 years where interest gets compounded annually :

(1) $2\frac{1}{2}\%$

(2) $3\frac{1}{4}\%$

(3) 5%

(4) $7\frac{1}{2}\%$

Options :

54025064517. 1

54025064518. 2

54025064519. 3

54025064520. 4

Question Number : 210 Question Id : 54025016130 Question Type : MCQ Option Shuffling : No

Is Question Mandatory : No Calculator : None Response Time : N.A Think Time : N.A

Minimum Instruction Time : 0

Correct Marks : 5 Wrong Marks : 1

Question Key Details :

Key	Value
Comprehension	MCQ

किसी ब्याज दर पर ₹ 1,200 दो वर्षों में ₹ 1,323 हो जाता है, जबकि ब्याज वार्षिक रूप से संयोजित किया जाता है?

(1) $2\frac{1}{2}\%$

(2) $3\frac{1}{4}\%$

(3) 5%

(4) $7\frac{1}{2}\%$

Options :

54025064517. 1

54025064518. 2

54025064519. 3

54025064520. 4

Question Number : 211 Question Id : 54025016131 Question Type : MCQ Option Shuffling : No**Is Question Mandatory : No Calculator : None Response Time : N.A Think Time : N.A****Minimum Instruction Time : 0****Correct Marks : 5 Wrong Marks : 1****Question Key Details :**

Key	Value
Comprehension	MCQ

Arun invests an amount of ₹ 4,000 at the rate of 2% simple interest per annum. For how many years did he invest the amount to double his sum ?

- (1) 20 years
- (2) 30 years
- (3) 50 years
- (4) 45 years

Options :

54025064521. 1

54025064522. 2

54025064523. 3

54025064524. 4

Question Number : 211 Question Id : 54025016131 Question Type : MCQ Option Shuffling : No**Is Question Mandatory : No Calculator : None Response Time : N.A Think Time : N.A****Minimum Instruction Time : 0****Correct Marks : 5 Wrong Marks : 1****Question Key Details :**

Key	Value
-----	-------

अरुण 2% प्रतिवर्ष साधारण ब्याज की दर से ₹ 4,000 धनराशि का निवेश करता है। उसके द्वारा निवेश की गई धनराशि कितने वर्षों में दुगुनी हो जायेगी ?

- (1) 20 वर्ष
- (2) 30 वर्ष
- (3) 50 वर्ष
- (4) 45 वर्ष

Options :

54025064521. 1

54025064522. 2

54025064523. 3

54025064524. 4

Question Number : 212 Question Id : 54025016132 Question Type : MCQ Option Shuffling : No

Is Question Mandatory : No Calculator : None Response Time : N.A Think Time : N.A

Minimum Instruction Time : 0

Correct Marks : 5 Wrong Marks : 1

Question Key Details :

Key	Value
Comprehension	MCQ

What should replace the question mark ?

$$\frac{854 \times 854 \times 854 - 276 \times 276 \times 276}{854 \times 854 + 854 \times 276 + 276 \times 276} = ?$$

- (1) 1130
- (2) 578
- (3) 565
- (4) 1156

Options :

54025064525. 1

54025064526. 2

54025064527. 3

54025064528. 4

Question Number : 212 Question Id : 54025016132 Question Type : MCQ Option Shuffling : No

Is Question Mandatory : No Calculator : None Response Time : N.A Think Time : N.A

Minimum Instruction Time : 0

Correct Marks : 5 Wrong Marks : 1

Question Key Details :

Key	Value
Comprehension	MCQ

$$\frac{854 \times 854 \times 854 - 276 \times 276 \times 276}{854 \times 854 + 854 \times 276 + 276 \times 276} = ?$$

निम्नलिखित में से कौन-सी संख्या प्रश्नवाचक चिन्ह (?) को प्रतिस्थापित करेगी ?

- (1) 1130
- (2) 578
- (3) 565
- (4) 1156

Options :

54025064525. 1

54025064526. 2

54025064527. 3

54025064528. 4

Question Number : 213 Question Id : 54025016133 Question Type : MCQ Option Shuffling : No

Is Question Mandatory : No Calculator : None Response Time : N.A Think Time : N.A

Minimum Instruction Time : 0

Correct Marks : 5 Wrong Marks : 1

Question Key Details :

Key	Value
Comprehension	MCQ

What is the maximum area of a rectangle which can be inscribed in a circle of radius 2 cm ?

- (1) $2\sqrt{2}$ cm²
- (2) 8 cm²
- (3) $4\sqrt{2}$ cm²
- (4) 4 cm²

Options :

54025064529. 1

54025064530. 2

54025064531. 3

54025064532. 4

Question Number : 213 Question Id : 54025016133 Question Type : MCQ Option Shuffling : No

Is Question Mandatory : No Calculator : None Response Time : N.A Think Time : N.A

Minimum Instruction Time : 0

Correct Marks : 5 Wrong Marks : 1

Question Key Details :

Key	Value
Comprehension	MCQ

2 सेंमी. त्रिज्या के किसी वृत्त में उत्कीर्ण आयत का अधिकतम क्षेत्रफल कितना होगा ?

- (1) $2\sqrt{2}$ सेंमी²
- (2) 8 सेंमी²
- (3) $4\sqrt{2}$ सेंमी²
- (4) 4 सेंमी²

Options :

54025064529. 1

54025064530. 2

54025064531. 3

54025064532. 4

Question Number : 214 Question Id : 54025016134 Question Type : MCQ Option Shuffling : No

Is Question Mandatory : No Calculator : None Response Time : N.A Think Time : N.A

Minimum Instruction Time : 0

Correct Marks : 5 Wrong Marks : 1

Question Key Details :

Key	Value
Comprehension	MCQ

The diameter of the driving wheel of a bus is 140 m. How many revolutions per minute must the wheel make in order to keep a speed of 66 km/h ?

- (1) 1100
- (2) 500
- (3) 250
- (4) 300

Options :

54025064533. 1

54025064534. 2

54025064535. 3

54025064536. 4

Question Number : 214 Question Id : 54025016134 Question Type : MCQ Option Shuffling : No

Is Question Mandatory : No Calculator : None Response Time : N.A Think Time : N.A

Minimum Instruction Time : 0

Correct Marks : 5 Wrong Marks : 1

Question Key Details :

Key	Value
Comprehension	MCQ

किसी बस के चालक चक्र के पहिए का व्यास 140 मी है। 66 किमी/घंटे की गति बनाये रखने के लिए पहिये को प्रति मिनट कितना घूर्णन करना होगा?

- (1) 1100
- (2) 500
- (3) 250
- (4) 300

Options :

54025064533. 1

54025064534. 2

54025064535. 3

54025064536. 4

Question Number : 215 Question Id : 54025016135 Question Type : MCQ Option Shuffling : No

Is Question Mandatory : No Calculator : None Response Time : N.A Think Time : N.A

Minimum Instruction Time : 0

Correct Marks : 5 Wrong Marks : 1

Question Key Details :

Key	Value
Comprehension	MCQ

If the selling price is doubled, the profit triples. Find the profit % :

- (1) 50%
- (2) $105\frac{1}{3}\%$
- (3) $66\frac{2}{3}\%$
- (4) 100%

Options :

54025064537. 1

54025064538. 2

54025064539. 3

54025064540. 4

Question Number : 215 Question Id : 54025016135 Question Type : MCQ Option Shuffling : No

Is Question Mandatory : No Calculator : None Response Time : N.A Think Time : N.A

Minimum Instruction Time : 0

Correct Marks : 5 Wrong Marks : 1

Question Key Details :

Key	Value
Comprehension	MCQ

यदि विक्रय मूल्य दुगुना कर दिया जाता है, लाभ तिगुना हो जाता है, तो लाभ % ज्ञात कीजिए?

(1) 50%

(2) $105\frac{1}{3}\%$

(3) $66\frac{2}{3}\%$

(4) 100%

Options :

54025064537. 1

54025064538. 2

54025064539. 3

54025064540. 4

Question Number : 216 Question Id : 54025016136 Question Type : MCQ Option Shuffling : No

Is Question Mandatory : No Calculator : None Response Time : N.A Think Time : N.A

Minimum Instruction Time : 0

Correct Marks : 5 Wrong Marks : 1

Question Key Details :

Key	Value
Comprehension	MCQ

Arjun is twice as old as Shreya. Five years ago, his age was three times Shreya's age. Find the sum of their present ages :

- (1) 20 years
- (2) 30 years
- (3) 40 years
- (4) 50 years

Options :

54025064541. 1

54025064542. 2

54025064543. 3

54025064544. 4

Question Number : 216 Question Id : 54025016136 Question Type : MCQ Option Shuffling : No

Is Question Mandatory : No Calculator : None Response Time : N.A Think Time : N.A

Minimum Instruction Time : 0

Correct Marks : 5 Wrong Marks : 1

Question Key Details :

Key	Value
Comprehension	MCQ

अर्जुन की आयु श्रेया की आयु की दुगुनी है। पाँच वर्ष पूर्व उसकी आयु श्रेया की आयु की तीन गुनी थी। उनकी वर्तमान आयु का योग ज्ञात कीजिए?

- (1) 20 वर्ष
- (2) 30 वर्ष
- (3) 40 वर्ष
- (4) 50 वर्ष

Options :

54025064541. 1

54025064542. 2

54025064543. 3

54025064544. 4

Question Number : 217 Question Id : 54025016137 Question Type : MCQ Option Shuffling : No Is Question Mandatory : No Calculator : None Response Time : N.A Think Time : N.A Minimum Instruction Time : 0

Correct Marks : 5 Wrong Marks : 1

Question Key Details :

Key	Value
Comprehension	MCQ

A bag contains 6 white and 4 black ball. Two balls are drawn at random. Then the probability of getting balls of the same colour is _____.

(1) $\frac{8}{15}$

(2) $\frac{6}{15}$

(3) $\frac{6}{13}$

(4) $\frac{7}{15}$

Options :

54025064545. 1

54025064546. 2

54025064547. 3

54025064548. 4

Question Number : 217 Question Id : 54025016137 Question Type : MCQ Option Shuffling : No Is Question Mandatory : No Calculator : None Response Time : N.A Think Time : N.A Minimum Instruction Time : 0

Correct Marks : 5 Wrong Marks : 1

Question Key Details :

Key	Value
-----	-------

एक बैग में 6 सफेद और 4 काली गेंद हैं। यादृच्छिक रूप से दो गेंद निकाली जाती हैं तो एक ही रंग की गेंद प्राप्त होने की संभाव्यता _____ है।

(1) $\frac{8}{15}$

(2) $\frac{6}{15}$

(3) $\frac{6}{13}$

(4) $\frac{7}{15}$

Options :

54025064545. 1

54025064546. 2

54025064547. 3

54025064548. 4

Question Number : 218 Question Id : 54025016138 Question Type : MCQ Option Shuffling : No

Is Question Mandatory : No Calculator : None Response Time : N.A Think Time : N.A

Minimum Instruction Time : 0

Correct Marks : 5 Wrong Marks : 1

Question Key Details :

Key	Value
Comprehension	MCQ

A die is thrown. Find the probability of getting :

(A) A number greater than 6 and

(B) A number less than 3.

(1) $0, \frac{1}{3}$

(2) $1, \frac{1}{2}$

(3) $\frac{1}{2}, 0$

(4) $\frac{1}{2}, \frac{1}{3}$

Options :

54025064549. 1

54025064550. 2

54025064551. 3

54025064552. 4

Question Number : 218 Question Id : 54025016138 Question Type : MCQ Option Shuffling : No

Is Question Mandatory : No Calculator : None Response Time : N.A Think Time : N.A

Minimum Instruction Time : 0

Correct Marks : 5 Wrong Marks : 1

Question Key Details :

Key	Value
Comprehension	MCQ

एक पासा फेंका जाता है। निम्नलिखित के प्राप्त होने की संभाव्यता ज्ञात कीजिए :

(A) 6 से अधिक संख्या और

(B) 3 से कम संख्या

(1) $0, \frac{1}{3}$

(2) $1, \frac{1}{2}$

(3) $\frac{1}{2}, 0$

(4) $\frac{1}{2}, \frac{1}{3}$

Options :

54025064549. 1

54025064550. 2

54025064551. 3

54025064552. 4

Question Number : 219 Question Id : 54025016139 Question Type : MCQ Option Shuffling : No

Is Question Mandatory : No Calculator : None Response Time : N.A Think Time : N.A

Minimum Instruction Time : 0

Correct Marks : 5 Wrong Marks : 1

Question Key Details :

Key	Value
Comprehension	MCQ

A man spends 60% of his income and saves the remaining. His income increases by 28% and his expenditure also increases by 30%. Find the percentage increase in his savings.

(1) 4%

(2) 4.44%

(3) 30%

(4) No change

Options :

54025064553. 1

54025064554. 2

54025064555. 3

54025064556. 4

Question Number : 219 Question Id : 54025016139 Question Type : MCQ Option Shuffling : No**Is Question Mandatory : No Calculator : None Response Time : N.A Think Time : N.A****Minimum Instruction Time : 0****Correct Marks : 5 Wrong Marks : 1****Question Key Details :**

Key	Value
Comprehension	MCQ

एक व्यक्ति अपनी आय का 60% व्यय करता है तथा शेष बचत करता है। उसकी आय में 28% की वृद्धि हो जाती है तथा उसके व्यय में भी 30% की वृद्धि हो जाती है। उसकी बचत में वृद्धि का प्रतिशत ज्ञात कीजिए?

- (1) 4%
- (2) 4.44%
- (3) 30%
- (4) कोई परिवर्तन नहीं

Options :

54025064553. 1

54025064554. 2

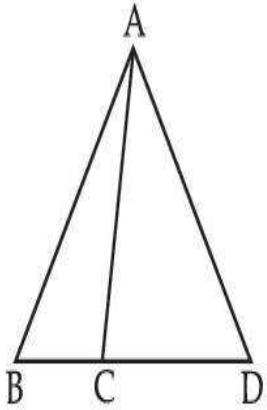
54025064555. 3

54025064556. 4

Question Number : 220 Question Id : 54025016140 Question Type : MCQ Option Shuffling : No**Is Question Mandatory : No Calculator : None Response Time : N.A Think Time : N.A****Minimum Instruction Time : 0****Correct Marks : 5 Wrong Marks : 1****Question Key Details :**

Key	Value
Comprehension	MCQ

In the given figure, $AB = AD$. $\angle ACB = 95^\circ + \angle BAC$ and $\angle BAD = 150^\circ$. Find $\angle ACB$.



- (1) 100°
- (2) 110°
- (3) 120°
- (4) 130°

Options :

54025064557. 1

54025064558. 2

54025064559. 3

54025064560. 4

Question Number : 220 Question Id : 54025016140 Question Type : MCQ Option Shuffling : No

Is Question Mandatory : No Calculator : None Response Time : N.A Think Time : N.A

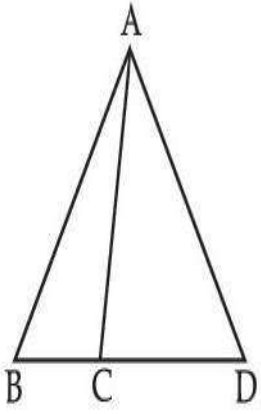
Minimum Instruction Time : 0

Correct Marks : 5 Wrong Marks : 1

Question Key Details :

Key	Value
Comprehension	MCQ

दी गई आकृति में, $AB = AD$ है। $\angle ACB = 95^\circ + \angle BAC$ तथा $\angle BAD = 150^\circ$ है। $\angle ACB$ ज्ञात कीजिए।



- (1) 100°
- (2) 110°
- (3) 120°
- (4) 130°

Options :

54025064557. 1

54025064558. 2

54025064559. 3

54025064560. 4

Question Number : 221 Question Id : 54025016141 Question Type : MCQ Option Shuffling : No

Is Question Mandatory : No Calculator : None Response Time : N.A Think Time : N.A

Minimum Instruction Time : 0

Correct Marks : 5 Wrong Marks : 1

Question Key Details :

Key	Value
Comprehension	MCQ

At what angle the hands of a clock are inclined at 16 minutes past 4 ?

- (1) 56°
- (2) 46°
- (3) 32°
- (4) 60°

Options :

54025064561. 1

54025064562. 2

54025064563. 3

54025064564. 4

Question Number : 221 Question Id : 54025016141 Question Type : MCQ Option Shuffling : No**Is Question Mandatory : No Calculator : None Response Time : N.A Think Time : N.A****Minimum Instruction Time : 0****Correct Marks : 5 Wrong Marks : 1****Question Key Details :**

Key	Value
Comprehension	MCQ

घड़ी की सूई 4 बजकर 16 मिनट पर किस कोण पर अभिनत होगी ?

(1) 56° (2) 46° (3) 32° (4) 60° **Options :**

54025064561. 1

54025064562. 2


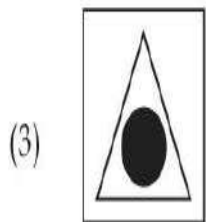
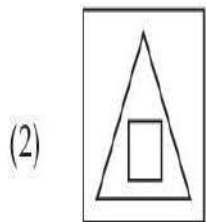
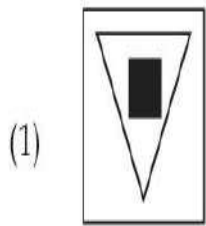
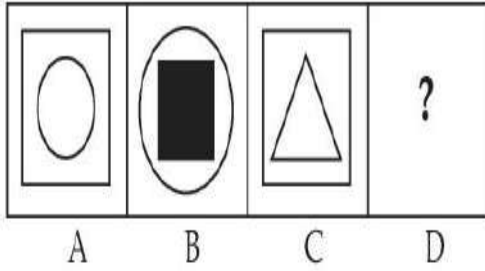
54025064563. 3

54025064564. 4

Question Number : 222 Question Id : 54025016142 Question Type : MCQ Option Shuffling : No**Is Question Mandatory : No Calculator : None Response Time : N.A Think Time : N.A****Minimum Instruction Time : 0****Correct Marks : 5 Wrong Marks : 1****Question Key Details :**

Key	Value
-----	-------

There is a definite relationship between figures A and B. Establish a similar relationship between figures C and D by selecting a suitable figure from options :



Options :

54025064565. 1

54025064566. 2

54025064567. 3

54025064568. 4

Is Question Mandatory : No Calculator : None Response Time : N.A Think Time : N.A


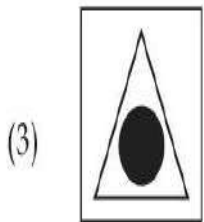
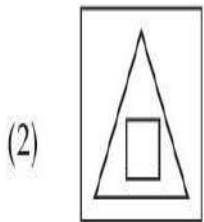
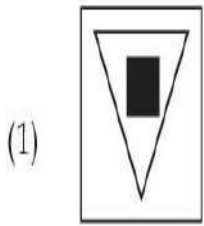
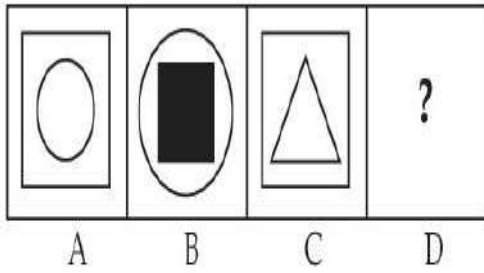
Minimum Instruction Time : 0

Correct Marks : 5 Wrong Marks : 1

Question Key Details :

Key	Value
Comprehension	MCQ

आकृति A और B के बीच एक निश्चित संबंध है। विकल्पों में से उपयुक्त आकृति के चयन द्वारा आकृति C और D के बीच समान संबंध स्थापित कीजिए :



Options :

54025064565. 1

54025064566. 2

54025064567. 3

54025064568. 4

Question Number : 223 Question Id : 54025016143 Question Type : MCQ Option Shuffling : No

Is Question Mandatory : No Calculator : None Response Time : N.A Think Time : N.A

Minimum Instruction Time : 0

Correct Marks : 5 Wrong Marks : 1

Question Key Details :

Key	Value
Comprehension	MCQ

Five persons are standing in a queue, one of two persons at the extreme end is a doctor and the other is engineer. An advocate is standing to the right of the student. An Author is to the left of the engineer. The student is standing between the doctor and advocate.

If the advocate and engineer exchange their positions and also the author and the student, then who will be standing to the left of the author ?

- (1) Doctor
- (2) Engineer
- (3) Advocate
- (4) Student

Options :

54025064569. 1

54025064570. 2

54025064571. 3

54025064572. 4

Question Number : 223 Question Id : 54025016143 Question Type : MCQ Option Shuffling : No

Is Question Mandatory : No Calculator : None Response Time : N.A Think Time : N.A

Minimum Instruction Time : 0

Correct Marks : 5 Wrong Marks : 1

Question Key Details :

Key	Value
Comprehension	MCQ

पाँच व्यक्ति एक पंक्ति में खड़े हैं। अंतिम छोर पर खड़े दो व्यक्तियों में से एक डॉक्टर है तथा दूसरा इंजीनियर है। विद्यार्थी के दाहिनी ओर एक वकील खड़ा है। इंजीनियर के बायीं ओर लेखक है। डॉक्टर और वकील के बीच में विद्यार्थी खड़ा है।

यदि वकील और इंजीनियर आपस में अपना स्थान परिवर्तित कर लेते हैं तथा लेखक और विद्यार्थी भी अपना स्थान परिवर्तित कर लेते हैं, तो लेखक के बायीं तरफ खड़ा व्यक्ति कौन होगा ?

- (1) डॉक्टर
- (2) इंजीनियर
- (3) वकील
- (4) विद्यार्थी

Options :

54025064569. 1

54025064570. 2

54025064571. 3

54025064572. 4

Question Number : 224 Question Id : 54025016144 Question Type : MCQ Option Shuffling : No**Is Question Mandatory : No Calculator : None Response Time : N.A Think Time : N.A****Minimum Instruction Time : 0****Correct Marks : 5 Wrong Marks : 1****Question Key Details :**

Key	Value
Comprehension	MCQ

A is the husband of B. C is the only grandson of D who is wife of E and mother-in-law of B. How is A related to E ?

- (1) Cousin
- (2) Nephew
- (3) Son-in-law
- (4) Son

Options :

54025064573. 1

54025064574. 2

54025064575. 3

54025064576. 4

Question Number : 224 Question Id : 54025016144 Question Type : MCQ Option Shuffling : No**Is Question Mandatory : No Calculator : None Response Time : N.A Think Time : N.A****Minimum Instruction Time : 0****Correct Marks : 5 Wrong Marks : 1****Question Key Details :**

Key	Value
Comprehension	MCQ

A B का पति है। E की पत्नी और B की सास D का एकमात्र नाती C है। A, E से कैसे संबंधित है?

- (1) चचेरा भाई
- (2) भतीजा
- (3) दामाद
- (4) पुत्र

Options :

54025064573. 1

54025064574. 2

54025064575. 3

54025064576. 4

Question Number : 225 Question Id : 54025016145 Question Type : MCQ Option Shuffling : No**Is Question Mandatory : No Calculator : None Response Time : N.A Think Time : N.A****Minimum Instruction Time : 0****Correct Marks : 5 Wrong Marks : 1****Question Key Details :**

Key	Value
Comprehension	MCQ

Shyam walks 4 km north-east and then 3 km south-east. Find the total distance as well as the shortest distance between starting and end point.

- (1) 14, 7
- (2) 9, 5
- (3) 7, 5
- (4) 8, 5

Options :

54025064577. 1

54025064578. 2

54025064579. 3

54025064580. 4

Question Number : 225 Question Id : 54025016145 Question Type : MCQ Option Shuffling : No

Is Question Mandatory : No Calculator : None Response Time : N.A Think Time : N.A

Minimum Instruction Time : 0

Correct Marks : 5 Wrong Marks : 1

Question Key Details :

Key	Value
Comprehension	MCQ

श्याम 4 किमी. उत्तर-पूर्व चलता है और फिर 3 किमी. दक्षिण-पूर्व चलता है। आरंभिक बिंदु और अंतिम बिंदु के बीच कुल दूरी के साथ-साथ न्यूनतम दूरी ज्ञात कीजिए।

- (1) 14, 7
- (2) 9, 5
- (3) 7, 5
- (4) 8, 5

Options :

54025064577. 1

54025064578. 2

54025064579. 3

54025064580. 4

**Question Number : 226 Question Id : 54025016146 Question Type : MCQ Option Shuffling : No
Is Question Mandatory : No Calculator : None Response Time : N.A Think Time : N.A**

Minimum Instruction Time : 0

Correct Marks : 5 Wrong Marks : 1

Question Key Details :

Key	Value
Comprehension	MCQ

When a calendar of year 1997 can be used again ?

- (1) 2001
- (2) 2005
- (3) 2003
- (4) 2007

Options :

54025064581. 1

54025064582. 2

54025064583. 3

54025064584. 4

**Question Number : 226 Question Id : 54025016146 Question Type : MCQ Option Shuffling : No
Is Question Mandatory : No Calculator : None Response Time : N.A Think Time : N.A**

Minimum Instruction Time : 0

Correct Marks : 5 Wrong Marks : 1

Question Key Details :

Key	Value
Comprehension	MCQ

वर्ष 1997 का कैलेण्डर पुनः किस वर्ष प्रयुक्त किया जा सकता है?

- (1) 2001
- (2) 2005
- (3) 2003
- (4) 2007

Options :

54025064581. 1

54025064582. 2

54025064583. 3

54025064584. 4

Question Number : 227 Question Id : 54025016147 Question Type : MCQ Option Shuffling : No

Is Question Mandatory : No Calculator : None Response Time : N.A Think Time : N.A

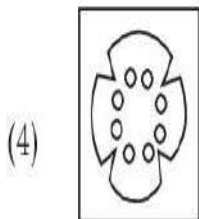
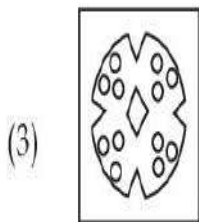
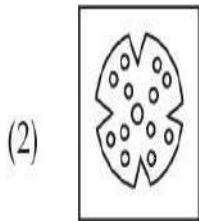
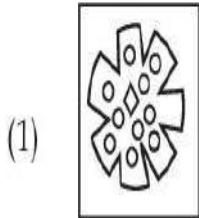
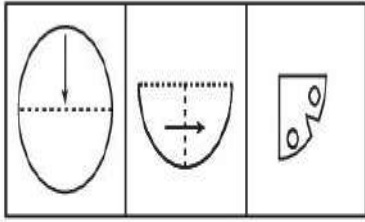
Minimum Instruction Time : 0

Correct Marks : 5 Wrong Marks : 1

Question Key Details :

Key	Value
Comprehension	MCQ

A piece of paper is folded and cut as shown below. From the given figures, indicate how it will appear when it is opened ?



Options :

54025064585. 1

54025064586. 2

54025064587. 3

54025064588. 4

Question Number : 227 Question Id : 54025016147 Question Type : MCQ Option Shuffling : No

Is Question Mandatory : No Calculator : None Response Time : N.A Think Time : N.A

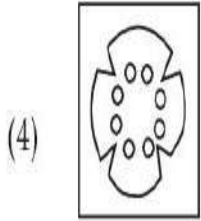
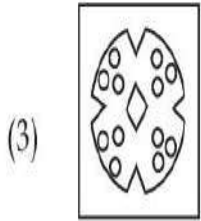
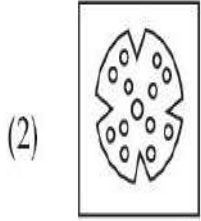
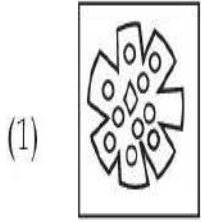
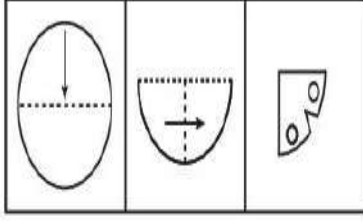
Minimum Instruction Time : 0

Correct Marks : 5 Wrong Marks : 1

Question Key Details :

Key	Value
Comprehension	MCQ

कागज के एक टुकड़े को नीचे प्रदर्शित चित्र के अनुसार मोड़ा तथा काटा जाता है। नीचे दी गई आकृतियों से इंगित कीजिए कि जब इसे खोला जायेगा तो कैसे दिखाई देगा?



Options :

54025064585. 1

54025064586. 2

54025064587. 3

54025064588. 4

Question Number : 228 Question Id : 54025016148 Question Type : MCQ Option Shuffling : No

Is Question Mandatory : No Calculator : None Response Time : N.A Think Time : N.A

Minimum Instruction Time : 0

Correct Marks : 5 Wrong Marks : 1

Question Key Details :

Key	Value
Comprehension	MCQ

Seven friends A, B, C, D, E, F and G are sitting in a circle facing the centre. A is between E and D.
F is between B and G. B is second to the right of E.

G is sitting :

- (1) between A and F
- (2) to the immediate right of F
- (3) second to the left of A
- (4) fourth to the left of E

Options :

54025064589. 1

54025064590. 2

54025064591. 3

54025064592. 4

Question Number : 228 Question Id : 54025016148 Question Type : MCQ Option Shuffling : No

Is Question Mandatory : No Calculator : None Response Time : N.A Think Time : N.A

Minimum Instruction Time : 0

Correct Marks : 5 Wrong Marks : 1

Question Key Details :

Key	Value
Comprehension	MCQ

सात मित्र A, B, C, D, E, F और G केन्द्र की ओर मुँह करके एक वृत्त में बैठे हैं। A, E और D के बीच में है। E, B और G के बीच में है। E के दाहिनी ओर से दूसरे स्थान पर B है।

G कहाँ बैठा है :

- (1) A और F के बीच
- (2) F के तुरंत दाहिने
- (3) A के बायें से दूसरे स्थान पर
- (4) E के बायें से चौथे स्थान पर

Options :

54025064589. 1

54025064590. 2

54025064591. 3

54025064592. 4

Question Number : 229 Question Id : 54025016149 Question Type : MCQ Option Shuffling : No

Is Question Mandatory : No Calculator : None Response Time : N.A Think Time : N.A

Minimum Instruction Time : 0

Correct Marks : 5 Wrong Marks : 1

Question Key Details :

Key	Value
Comprehension	MCQ

Six lectures are scheduled in a week starting from Monday and ending on Sunday with one off day in between. Computer science is not on Tuesday or Saturday. Psychology is immediately after organisational behaviour. Statistics is not on Friday and there is one day gap between statistics and Research methods. One day prior to the schedule of Economics there is no lecture (as that day is the off day and Monday is not the off day)

On which day is computer science scheduled ?

- (1) Friday
- (2) Thursday
- (3) Sunday
- (4) Wednesday

Options :

54025064593. 1

54025064594. 2

54025064595. 3

54025064596. 4

Question Number : 229 Question Id : 54025016149 Question Type : MCQ Option Shuffling : No

Is Question Mandatory : No Calculator : None Response Time : N.A Think Time : N.A

Minimum Instruction Time : 0

Correct Marks : 5 Wrong Marks : 1

Question Key Details :

Key	Value
Comprehension	MCQ

सोमवार से प्रारंभ किसी सप्ताह में छह व्याख्यान निर्धारित हैं तथा उसी सप्ताह के रविवार को समाप्त होते हैं। कंप्यूटर साइंस मंगलवार या शनिवार को नहीं है। मनोविज्ञान सांगठनिक व्यवहार के तुरंत बाद है। सांख्यिकी शुक्रवार को नहीं है तथा सांख्यिकी और अनुसंधान प्रविधि के बीच एक दिन का अंतराल है। अर्थशास्त्र के नियत समय के एक दिन पूर्व कोई व्याख्यान नहीं है (क्योंकि वह दिन 'अवकाश' का दिन है तथा सोमवार 'अवकाश' का दिन नहीं है)

कंप्यूटर साइंस के लिए नियत दिन कौन-सा है?

- (1) शुक्रवार
- (2) गुरुवार
- (3) रविवार
- (4) बुधवार

Options :

54025064593. 1

54025064594. 2

54025064595. 3

54025064596. 4

Question Number : 230 Question Id : 54025016150 Question Type : MCQ Option Shuffling : No

Is Question Mandatory : No Calculator : None Response Time : N.A Think Time : N.A

Minimum Instruction Time : 0

Correct Marks : 5 Wrong Marks : 1

Question Key Details :

Key	Value
Comprehension	MCQ

Answer the following question by using Venn diagram on the basis of the given statements and conclusions. You have to assume all the statements there, decide which of the given conclusions logically follows from the information given in the statements

Statements : I. Some shirts are pants.
II. All shoes are shirts.
III. All pants are gloves.

Conclusions : I. Some shoes are gloves.
II. Some shirts are gloves.
III. No pants are shoes.
IV. All gloves are shirts.

- (1) Only II follows
- (2) Only IV follows
- (3) Only I and II follows
- (4) Only I and IV follows

Options :

54025064597. 1

54025064598. 2

54025064599. 3

54025064600. 4

Question Number : 230 Question Id : 54025016150 Question Type : MCQ Option Shuffling : No

Is Question Mandatory : No Calculator : None Response Time : N.A Think Time : N.A

Minimum Instruction Time : 0

Correct Marks : 5 Wrong Marks : 1

Question Key Details :

Key	Value
Comprehension	MCQ

दिय गये कथनों और निष्कर्षों के आधार पर वेन आरेख का प्रयोग करते हुए निम्नलिखित प्रश्न का उत्तर दीजिए। आपको यह मानना है कि सभी कथन सत्य हैं तथा आपको यह निश्चित करना है कि दिये गये कौन-से निष्कर्ष में कथन में प्रदत्त सूचना का अनुपालन होता है।

- कथन :**
- I. कुछ शर्ट पैन्ट हैं।
 - II. सभी जूते शर्ट हैं।
 - III. सभी पैन्ट दस्ताने हैं।

- निष्कर्ष :**
- I. कुछ जूते दस्ताने हैं।
 - II. कुछ शर्ट दस्ताने हैं।
 - III. कोई भी पैन्ट जूते नहीं है।
 - IV. सभी दस्ताने शर्ट हैं।

- (1) केवल II का अनुपालन होता है
- (2) केवल IV का अनुपालन होता है
- (3) केवल I और II का अनुपालन होता है
- (4) केवल I और IV का अनुपालन होता है

Options :

54025064597. 1
54025064598. 2
54025064599. 3
54025064600. 4

Question Number : 231 Question Id : 54025016151 Question Type : MCQ Option Shuffling : No

Is Question Mandatory : No Calculator : None Response Time : N.A Think Time : N.A

Minimum Instruction Time : 0

Correct Marks : 5 Wrong Marks : 1

Question Key Details :

Key	Value
Comprehension	MCQ

Find the next term in the given series.

BMO, EOQ, HQS, _____.

- (1) UKS
- (2) PQS
- (3) KSU
- (4) RSK

Options :

54025064601. 1

54025064602. 2

54025064603. 3

54025064604. 4

Question Number : 231 Question Id : 54025016151 Question Type : MCQ Option Shuffling : No

Is Question Mandatory : No Calculator : None Response Time : N.A Think Time : N.A

Minimum Instruction Time : 0

Correct Marks : 5 Wrong Marks : 1

Question Key Details :

Key	Value
Comprehension	MCQ

शृंखला में अगला पद ज्ञात कीजिए :

BMO, EOQ, HQS, _____.

- (1) UKS
- (2) PQS
- (3) KSU
- (4) RSK

Options :

54025064601. 1

54025064602. 2

54025064603. 3

54025064604. 4

Question Number : 232 Question Id : 54025016152 Question Type : MCQ Option Shuffling : No

Is Question Mandatory : No Calculator : None Response Time : N.A Think Time : N.A

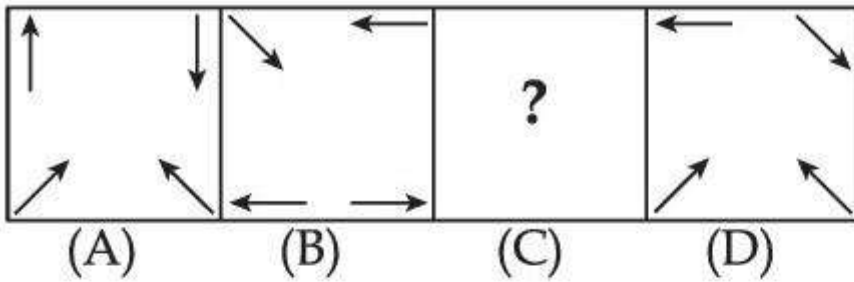
Minimum Instruction Time : 0

Correct Marks : 5 Wrong Marks : 1

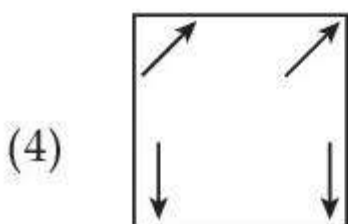
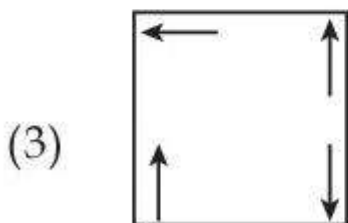
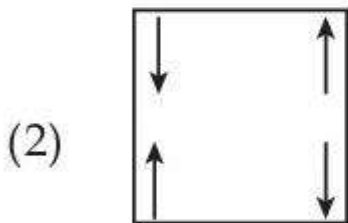
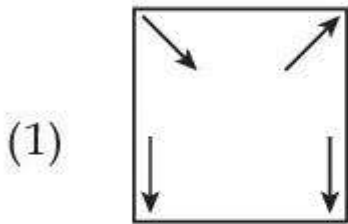
Question Key Details :

Key	Value
Comprehension	MCQ

Problem figure :



Choose the **correct** option to complete the series :



Options :

54025064605. 1

54025064606. 2

54025064607. 3

54025064608. 4

Question Number : 232 Question Id : 54025016152 Question Type : MCQ Option Shuffling : No

Is Question Mandatory : No Calculator : None Response Time : N.A Think Time : N.A

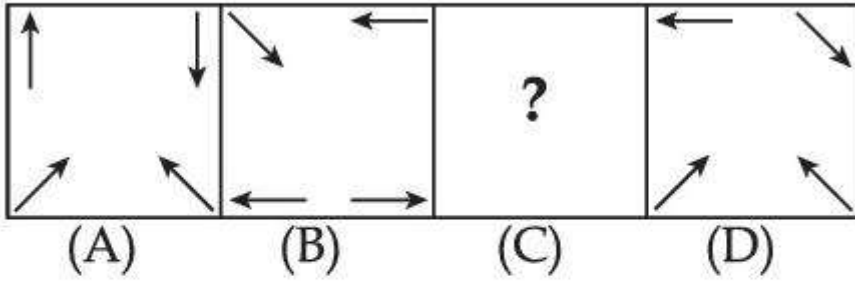
Minimum Instruction Time : 0

Correct Marks : 5 Wrong Marks : 1

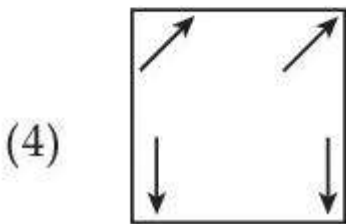
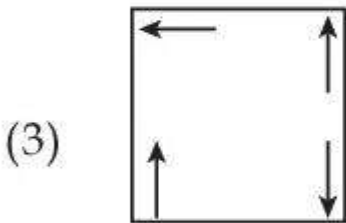
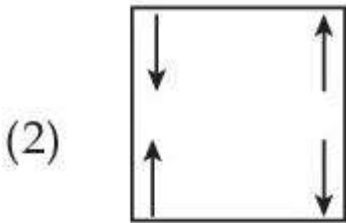
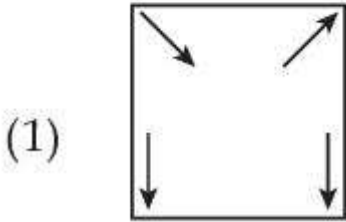
Question Key Details :

Key	Value
Comprehension	MCQ

समस्या आकृति :



श्रृंखला को पूर्ण करने के लिए सही विकल्प चुनिये :



Options :

54025064605. 1

54025064606. 2

54025064607. 3

54025064608. 4

Minimum Instruction Time : 0

Correct Marks : 5 Wrong Marks : 1

Question Key Details :

Key	Value
Comprehension	MCQ

The wrong term in the given number series is :

5, 6, 10, 19, 35, 60, 92, 145

(1) 145

(2) 35

(3) 92

(4) 60

Options :

54025064609. 1

54025064610. 2

54025064611. 3

54025064612. 4

Question Number : 233 Question Id : 54025016153 Question Type : MCQ Option Shuffling : No

Is Question Mandatory : No Calculator : None Response Time : N.A Think Time : N.A

Minimum Instruction Time : 0

Correct Marks : 5 Wrong Marks : 1

Question Key Details :

Key	Value
Comprehension	MCQ

दी गई श्रृंखला में कौन-सा पद गलत है ?

5, 6, 10, 19, 35, 60, 92, 145

(1) 145

(2) 35

(3) 92

(4) 60

Options :

54025064609. 1

54025064610. 2

54025064611. 3

54025064612. 4

Question Number : 234 Question Id : 54025016154 Question Type : MCQ Option Shuffling : No

Is Question Mandatory : No Calculator : None Response Time : N.A Think Time : N.A

Minimum Instruction Time : 0

Correct Marks : 5 Wrong Marks : 1

Question Key Details :

Key	Value
Comprehension	MCQ

Look at the statements and mark the correct answer based on the conclusions which follow :

Statement : A. I play video games when I am bored.
B. I am never bored in my friend's company.

Conclusion : I. If I am bored, I play video games.
II. If I am bored, I seek my friend's company.

- (1) Only conclusion I follows.
- (2) Only conclusion II follows.
- (3) Both conclusion I and II follows.
- (4) Neither conclusion I nor II follows.

Options :

54025064613. 1

54025064614. 2

54025064615. 3

54025064616. 4

Question Number : 234 Question Id : 54025016154 Question Type : MCQ Option Shuffling : No

Is Question Mandatory : No Calculator : None Response Time : N.A Think Time : N.A

Minimum Instruction Time : 0

Correct Marks : 5 Wrong Marks : 1

Question Key Details :

Key	Value
Comprehension	MCQ

निम्नलिखित कथन पर विचार कीजिए तथा उससे संबंधित निष्कर्ष के आधार पर सही उत्तर चुनिये :

कथन : A. जब मैं ऊबता हूँ तो मैं वीडियो गेम खेलता हूँ।

B. मैं अपने मित्रों के साथ कभी ऊबता नहीं हूँ।

निष्कर्ष : I. यदि मैं ऊबता हूँ, मैं वीडियो गेम खेलता हूँ।

II. यदि मैं ऊबता हूँ, मैं अपने मित्रों का साथ चाहता हूँ।

(1) केवल निष्कर्ष I का अनुपालन होता है।

(2) केवल निष्कर्ष II का अनुपालन होता है।

(3) निष्कर्ष I और II दोनों का अनुपालन होता है।

(4) न तो निष्कर्ष I का और न ही II का अनुपालन होता है।

Options :

54025064613. 1

54025064614. 2

54025064615. 3

54025064616. 4

Question Number : 235 Question Id : 54025016155 Question Type : MCQ Option Shuffling : No

Is Question Mandatory : No Calculator : None Response Time : N.A Think Time : N.A

Minimum Instruction Time : 0

Correct Marks : 5 Wrong Marks : 1

Question Key Details :

Key	Value
Comprehension	MCQ

Which letter will be sixth to the left of the nineteenth letter from the right end, in the following alphabets series.

A, B, C, D, E, F, G, H, I, J, K, L, M, N, O, P, Q, R, S, T, U, V, W, X, Y, Z

- (1) M
- (2) Y
- (3) N
- (4) B

Options :

54025064617. 1

54025064618. 2

54025064619. 3

54025064620. 4

Question Number : 235 Question Id : 54025016155 Question Type : MCQ Option Shuffling : No

Is Question Mandatory : No Calculator : None Response Time : N.A Think Time : N.A

Minimum Instruction Time : 0

Correct Marks : 5 Wrong Marks : 1

Question Key Details :

Key	Value
Comprehension	MCQ

निम्नलिखित वर्णमाला में दाहिनी ओर से उन्नीसवें अक्षर के बायीं ओर छठा अक्षर कौन-सा होगा ?

A, B, C, D, E, F, G, H, I, J, K, L, M, N, O, P, Q, R, S, T, U, V, W, X, Y, Z

- (1) M
- (2) Y
- (3) N
- (4) B

Options :

54025064617. 1

54025064618. 2

54025064619. 3

54025064620. 4

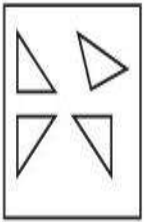
Question Number : 236 Question Id : 54025016156 Question Type : MCQ Option Shuffling : No Is Question Mandatory : No Calculator : None Response Time : N.A Think Time : N.A Minimum Instruction Time : 0

Correct Marks : 5 Wrong Marks : 1

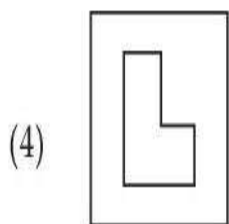
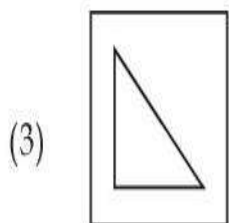
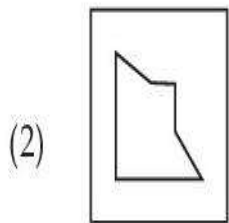
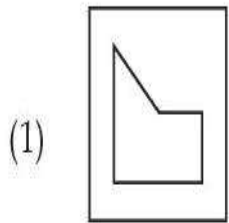
Question Key Details :

Key	Value
Comprehension	MCQ

Find out which of the figures can be formed using the pieces given in problem figure.



Problem figure.



Options :

54025064621. 1

54025064622. 2

54025064623. 3

54025064624. 4

Question Number : 236 Question Id : 54025016156 Question Type : MCQ Option Shuffling : No

Is Question Mandatory : No Calculator : None Response Time : N.A Think Time : N.A

Minimum Instruction Time : 0

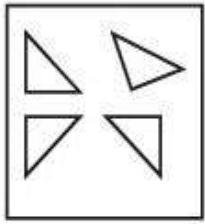
Correct Marks : 5 Wrong Marks : 1

Question Key Details :

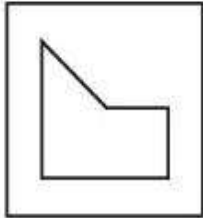
Key	Value
Comprehension	MCQ

ज्ञात कीजिये कि दिये गये टुकड़ों से कौन-सी आकृति बनायी जा सकती है?


समस्या आकृति।



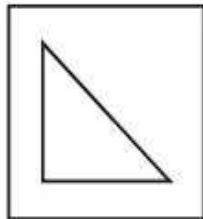
(1)




(2)



(3)



(4)



Options :

54025064621. 1

54025064622. 2

54025064623. 3

54025064624. 4

Question Number : 237 Question Id : 54025016157 Question Type : MCQ Option Shuffling : No

Is Question Mandatory : No Calculator : None Response Time : N.A Think Time : N.A

Minimum Instruction Time : 0

Correct Marks : 5 Wrong Marks : 1

Question Key Details :

Key	Value
Comprehension	MCQ

Statement :

An advertisement by a public sector bank : we offer higher fixed deposit interest in comparison to other public sector banks.

Assumption :

- I. The different public sector banks offer different deposit rates.
- II. There is competition in the market to attract customers.

From the above two assumptions, decide which of the assumption is implicit in the statement ?

- (1) Only assumption I is implicit
- (2) Only assumption II is implicit
- (3) Both I and II are implicit
- (4) Neither I nor II is implicit

Options :

54025064625. 1

54025064626. 2

54025064627. 3

54025064628. 4

Question Number : 237 Question Id : 54025016157 Question Type : MCQ Option Shuffling : No

Is Question Mandatory : No Calculator : None Response Time : N.A Think Time : N.A

Minimum Instruction Time : 0

Correct Marks : 5 Wrong Marks : 1

Question Key Details :

Key	Value
Comprehension	MCQ

कथन :

किसी सार्वजनिक क्षेत्र के बैंक का विज्ञापन : हम अन्य सार्वजनिक क्षेत्र की बैंकों की तुलना में उच्च सावधि जमा ब्याज प्रदान करते हैं।

पूर्वानुमान :

- I. सार्वजनिक क्षेत्र के विभिन्न बैंक विभिन्न जमा दरें प्रदान करते हैं।
- II. बाजार में ग्राहकों को आकर्षित करने की प्रतिस्पर्धा है।

उपर्युक्त दो पूर्वानुमानों से निश्चित कीजिए कि कथन में कौन-सा पूर्वानुमान अंतर्निहित है?

- (1) केवल पूर्वानुमान I अंतर्निहित है
- (2) केवल पूर्वानुमान II अंतर्निहित है
- (3) I और II दोनों अंतर्निहित हैं
- (4) न तो I और न ही II अंतर्निहित है

Options :

54025064625. 1

54025064626. 2

54025064627. 3

54025064628. 4

Question Number : 238 Question Id : 54025016158 Question Type : MCQ Option Shuffling : No

Is Question Mandatory : No Calculator : None Response Time : N.A Think Time : N.A

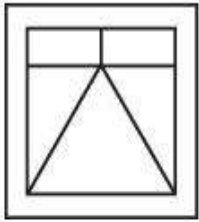
Minimum Instruction Time : 0

Correct Marks : 5 Wrong Marks : 1

Question Key Details :

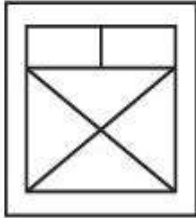
Key	Value
Comprehension	MCQ

Choose the figure in which the problem figure is embedded :

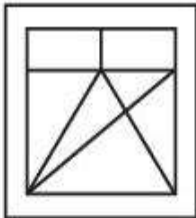


Problem figure

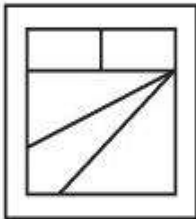
(1)



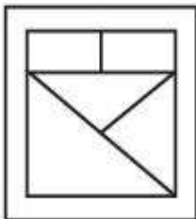
(2)



(3)



(4)



Options :

54025064629. 1

54025064630. 2

54025064631. 3

54025064632. 4

Question Number : 238 Question Id : 54025016158 Question Type : MCQ Option Shuffling : No

Is Question Mandatory : No Calculator : None Response Time : N.A Think Time : N.A

Minimum Instruction Time : 0

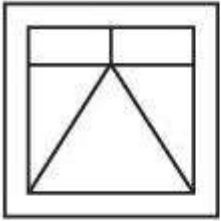
Correct Marks : 5 Wrong Marks : 1

Question Key Details :

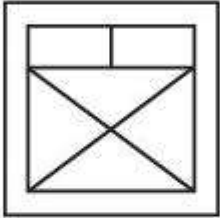
Key	Value
Comprehension	MCQ

उस आकृति को चुनिये जिसमें समस्या आकृति सन्निहित है ?

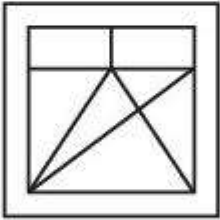
समस्या आकृति



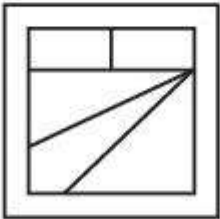
(1)



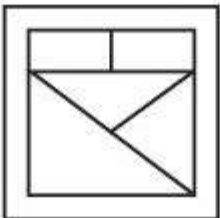
(2)



(3)



(4)



Options :

54025064629. 1

54025064630. 2

54025064631. 3

54025064632. 4

Question Number : 239 Question Id : 54025016159 Question Type : MCQ Option Shuffling : No

Is Question Mandatory : No Calculator : None Response Time : N.A Think Time : N.A

Minimum Instruction Time : 0

Correct Marks : 5 Wrong Marks : 1

Question Key Details :

Key	Value
Comprehension	MCQ

If PANT is TNAP an RATS are STAR; then ELEPHANTS are _____.

- (1) PHANTSELE
- (2) ANTSPHELE
- (3) STNAHPELE
- (4) LEENAPSTH

Options :

54025064633. 1

54025064634. 2

54025064635. 3

54025064636. 4

Question Number : 239 Question Id : 54025016159 Question Type : MCQ Option Shuffling : No

Is Question Mandatory : No Calculator : None Response Time : N.A Think Time : N.A

Minimum Instruction Time : 0

Correct Marks : 5 Wrong Marks : 1

Question Key Details :

Key	Value
Comprehension	MCQ

यदि PANT को TNAP तथा RATS को STAR के रूप में कूटबद्ध किया जाता है, तो ELEPHANTS को किस रूप में कूटबद्ध किया जायेगा।

- (1) PHANTSELE
- (2) ANTSPHELE
- (3) STNAHPELE
- (4) LEENAPSTH

Options :

54025064633. 1

54025064634. 2

54025064635. 3

54025064636. 4

Question Number : 240 Question Id : 54025016160 Question Type : MCQ Option Shuffling : No

Is Question Mandatory : No Calculator : None Response Time : N.A Think Time : N.A

Minimum Instruction Time : 0

Correct Marks : 5 Wrong Marks : 1

Question Key Details :

Key	Value
Comprehension	MCQ

You are a team manager, you find that your employee's performance is inappropriate that induces/creates a stress for you. You should :

- (1) start an incentive mechanism for better performance.
- (2) implement special human resource training for the employees.
- (3) create an organizational culture in which the employee feels to be concerned.
- (4) Terminate the employee.

Options :

54025064637. 1

54025064638. 2

54025064639. 3

54025064640. 4

Question Number : 240 Question Id : 54025016160 Question Type : MCQ Option Shuffling : No

Is Question Mandatory : No Calculator : None Response Time : N.A Think Time : N.A

Minimum Instruction Time : 0

Correct Marks : 5 Wrong Marks : 1

Question Key Details :

Key	Value
Comprehension	MCQ

आप टीम प्रबंधक हैं, आप पाते हैं कि आपके कर्मचारी का निष्पादन अनुपयुक्त है जो आपके लिए तनाव उत्पन्न करता है, आपको क्या करना चाहिए?

- (1) बेहतर निष्पादन के लिए प्रोत्साहन प्रक्रिया आरंभ करना चाहिए।
- (2) कर्मचारियों के लिए विशेष मानव संसाधन प्रशिक्षण का कार्यान्वयन करना चाहिए।
- (3) सांगठनिक संस्कृति निर्मित करना चाहिए जिसमें कर्मचारी अपने आपको संबद्ध महसूस करें।
- (4) कर्मचारी को निलंबित करना चाहिए।

Options :

54025064637. 1

54025064638. 2

54025064639. 3

54025064640. 4

Question Number : 241 Question Id : 54025016161 Question Type : MCQ Option Shuffling : No

Is Question Mandatory : No Calculator : None Response Time : N.A Think Time : N.A

Minimum Instruction Time : 0

Correct Marks : 5 Wrong Marks : 1

Question Key Details :

Key	Value
Comprehension	MCQ

Where is Ajanta cave ?

- (1) Kerala
- (2) Ajmer
- (3) Maharashtra
- (4) Gujrat

Options :

54025064641. 1

54025064642. 2

54025064643. 3

54025064644. 4

Question Number : 241 Question Id : 54025016161 Question Type : MCQ Option Shuffling : No

Is Question Mandatory : No Calculator : None Response Time : N.A Think Time : N.A

Minimum Instruction Time : 0

Correct Marks : 5 Wrong Marks : 1

Question Key Details :

Key	Value
Comprehension	MCQ

अजंता गुफा कहाँ है?

- (1) केरल
- (2) अजमेर
- (3) महाराष्ट्र
- (4) गुजरात

Options :

54025064641. 1

54025064642. 2

54025064643. 3

54025064644. 4

Question Number : 242 Question Id : 54025016162 Question Type : MCQ Option Shuffling : No

Is Question Mandatory : No Calculator : None Response Time : N.A Think Time : N.A

Minimum Instruction Time : 0

Correct Marks : 5 Wrong Marks : 1

Question Key Details :

Key	Value
Comprehension	MCQ

Who ordered the annexation of Awadh from Wajid Ali Shah ?

- (1) Lord Dalhousie
- (2) Lord Canning
- (3) Lord Warren Hastings
- (4) Lord Lansdown

Options :

54025064645. 1

54025064646. 2

54025064647. 3

54025064648. 4

Question Number : 242 Question Id : 54025016162 Question Type : MCQ Option Shuffling : No

Is Question Mandatory : No Calculator : None Response Time : N.A Think Time : N.A

Minimum Instruction Time : 0

Correct Marks : 5 Wrong Marks : 1

Question Key Details :

Key	Value
Comprehension	MCQ

वाजिद अली शाह से अवध के समामेलन का आदेश किसने जारी किया ?

- (1) लार्ड डलहौजी
- (2) लार्ड केनिंग
- (3) लार्ड वारेन हेस्टिंग
- (4) लार्ड लैंसडाउन

Options :

54025064645. 1

54025064646. 2

54025064647. 3

54025064648. 4

Question Number : 243 Question Id : 54025016163 Question Type : MCQ Option Shuffling : No

Is Question Mandatory : No Calculator : None Response Time : N.A Think Time : N.A

Minimum Instruction Time : 0

Correct Marks : 5 Wrong Marks : 1

Question Key Details :

Key	Value
Comprehension	MCQ

Match List - I with List - II.

List - I

(Dynasty)

- (A) The Kingdom of Gaud
- (B) The Chalukyas of Vatapi
- (C) The Kingdom of Thaneshwar
- (D) The Maitrakas of Vallabhi

List - II

(Founder)

- (I) Bhattarka
- (II) Jayasimha
- (III) Shashanka
- (IV) Pushyabhuti

Choose the correct answer from the options given below :

- (1) (A)-(II), (B)-(III), (C)-(I), (D)-(IV)
- (2) (A)-(III), (B)-(II), (C)-(IV), (D)-(I)
- (3) (A)-(I), (B)-(III), (C)-(II), (D)-(IV)
- (4) (A)-(I), (B)-(IV), (C)-(II), (D)-(III)

Options :

54025064649. 1

54025064650. 2

54025064651. 3

54025064652. 4

Question Number : 243 Question Id : 54025016163 Question Type : MCQ Option Shuffling : No

Is Question Mandatory : No Calculator : None Response Time : N.A Think Time : N.A

Minimum Instruction Time : 0

Correct Marks : 5 Wrong Marks : 1

Question Key Details :

Key	Value
Comprehension	MCQ

सूची- I से सूची- II का मिलान कीजिए:

सूची- I

(राजवंश)

- (A) गौड़ साम्राज्य
- (B) वातपी के चालुक्य
- (C) थानेश्वर साम्राज्य
- (D) वल्लभी के मैत्रक

सूची- II

(संस्थापक)

- (I) भट्टार्क
- (II) जयसिंह
- (III) शंशाक
- (IV) पुष्यभूति

नीचे दिए गए विकल्पों में से सही उत्तर का चयन कीजिए:

- (1) (A)-(II), (B)-(III), (C)-(I), (D)-(IV)
- (2) (A)-(III), (B)-(II), (C)-(IV), (D)-(I)
- (3) (A)-(I), (B)-(III), (C)-(II), (D)-(IV)
- (4) (A)-(I), (B)-(IV), (C)-(II), (D)-(III)

Options :

54025064649. 1

54025064650. 2

54025064651. 3

54025064652. 4

Question Number : 244 Question Id : 54025016164 Question Type : MCQ Option Shuffling : No

Is Question Mandatory : No Calculator : None Response Time : N.A Think Time : N.A

Minimum Instruction Time : 0

Correct Marks : 5 Wrong Marks : 1

Question Key Details :

Key	Value
Comprehension	MCQ

When did Dual Government of Bengal start ?

- (1) 1765
- (2) 1825
- (3) 1855
- (4) 1775

Options :

54025064653. 1

54025064654. 2

54025064655. 3

54025064656. 4

Question Number : 244 Question Id : 54025016164 Question Type : MCQ Option Shuffling : No

Is Question Mandatory : No Calculator : None Response Time : N.A Think Time : N.A

Minimum Instruction Time : 0

Correct Marks : 5 Wrong Marks : 1

Question Key Details :

Key	Value
Comprehension	MCQ

बंगाल का द्वैध शासन कब आरंभ हुआ ?

- (1) 1765
- (2) 1825
- (3) 1855
- (4) 1775

Options :

54025064653. 1

54025064654. 2

54025064655. 3

54025064656. 4

**Question Number : 245 Question Id : 54025016165 Question Type : MCQ Option Shuffling : No
Is Question Mandatory : No Calculator : None Response Time : N.A Think Time : N.A**

Minimum Instruction Time : 0

Correct Marks : 5 Wrong Marks : 1

Question Key Details :

Key	Value
Comprehension	MCQ

Which of the following is a renewable natural resource ?

- (1) Timber
- (2) Thorium
- (3) Natural Gas
- (4) Coal

Options :

54025064657. 1

54025064658. 2

54025064659. 3

54025064660. 4

**Question Number : 245 Question Id : 54025016165 Question Type : MCQ Option Shuffling : No
Is Question Mandatory : No Calculator : None Response Time : N.A Think Time : N.A**

Minimum Instruction Time : 0

Correct Marks : 5 Wrong Marks : 1

Question Key Details :

Key	Value
Comprehension	MCQ

नवीकरणीय प्राकृतिक संसाधन निम्नलिखित में से कौन-सा है ?

- (1) इमारती लकड़ी
- (2) थोरियम
- (3) प्राकृतिक गैस
- (4) कोयला

Options :

54025064657. 1

54025064658. 2

54025064659. 3

54025064660. 4

Question Number : 246 Question Id : 54025016166 Question Type : MCQ Option Shuffling : No

Is Question Mandatory : No Calculator : None Response Time : N.A Think Time : N.A

Minimum Instruction Time : 0

Correct Marks : 5 Wrong Marks : 1

Question Key Details :

Key	Value
Comprehension	MCQ

Which of these forms of carbon are used to determine carbon dating ?

- (1) Carbon - 12
- (2) Carbon - 14
- (3) Coke Charcoal
- (4) Graphite

Options :

54025064661. 1

54025064662. 2

54025064663. 3

54025064664. 4

Question Number : 246 Question Id : 54025016166 Question Type : MCQ Option Shuffling : No

Is Question Mandatory : No Calculator : None Response Time : N.A Think Time : N.A

Minimum Instruction Time : 0

Correct Marks : 5 Wrong Marks : 1

Question Key Details :

Key	Value
Comprehension	MCQ

कार्बन कालनिर्धारण को सुनिश्चित करने के लिए कार्बन के निम्नलिखित में से किस रूप का प्रयोग किया जाता है?

- (1) कार्बन - 12
- (2) कार्बन - 14
- (3) कोक चारकोल
- (4) ग्रेफाइट

Options :

54025064661. 1

54025064662. 2

54025064663. 3

54025064664. 4

Question Number : 247 Question Id : 54025016167 Question Type : MCQ Option Shuffling : No

Is Question Mandatory : No Calculator : None Response Time : N.A Think Time : N.A

Minimum Instruction Time : 0

Correct Marks : 5 Wrong Marks : 1

Question Key Details :

Key	Value
Comprehension	MCQ

The collection of Male Reproductive Part of a flower is called :

- (1) Androecium
- (2) Corolla
- (3) Calyx
- (4) Gynoecium

Options :

54025064665. 1

54025064666. 2

54025064667. 3

54025064668. 4

Question Number : 247 Question Id : 54025016167 Question Type : MCQ Option Shuffling : No

Is Question Mandatory : No Calculator : None Response Time : N.A Think Time : N.A

Minimum Instruction Time : 0

Correct Marks : 5 Wrong Marks : 1

Question Key Details :

Key	Value
Comprehension	MCQ

पुष्प के नर जनन भाग का संकलन कहलाता है :

- (1) पुमंग
- (2) दलपुंज
- (3) बाह्यदल पुंज
- (4) जीनोसियम

Options :

54025064665. 1

54025064666. 2

54025064667. 3

54025064668. 4

Question Number : 248 Question Id : 54025016168 Question Type : MCQ Option Shuffling : No

Is Question Mandatory : No Calculator : None Response Time : N.A Think Time : N.A

Minimum Instruction Time : 0

Correct Marks : 5 Wrong Marks : 1

Question Key Details :

Key	Value
Comprehension	MCQ

In mRNA, vaccine, what is the meaning of 'm' :

- (1) Messenger
- (2) Moderna
- (3) Membrane
- (4) Modeling

Options :

54025064669. 1

54025064670. 2

54025064671. 3

54025064672. 4

Question Number : 248 Question Id : 54025016168 Question Type : MCQ Option Shuffling : No

Is Question Mandatory : No Calculator : None Response Time : N.A Think Time : N.A

Minimum Instruction Time : 0

Correct Marks : 5 Wrong Marks : 1

Question Key Details :

Key	Value
Comprehension	MCQ

एम आर एन ए (mRNA) टीके में 'm' का आशय क्या है :

- (1) मेसेन्जर
- (2) मोडर्ना
- (3) मेम्ब्रेन
- (4) मॉडलिंग

Options :

54025064669. 1

54025064670. 2

54025064671. 3

54025064672. 4

Question Number : 249 Question Id : 54025016169 Question Type : MCQ Option Shuffling : No

Is Question Mandatory : No Calculator : None Response Time : N.A Think Time : N.A

Minimum Instruction Time : 0

Correct Marks : 5 Wrong Marks : 1

Question Key Details :

Key	Value
Comprehension	MCQ

Where was International Tourism Fair FITUR 2023, held ?

- (1) Tokyo
- (2) Delhi
- (3) Beijing
- (4) Madrid

Options :

54025064673. 1

54025064674. 2

54025064675. 3

54025064676. 4

Question Number : 249 Question Id : 54025016169 Question Type : MCQ Option Shuffling : No

Is Question Mandatory : No Calculator : None Response Time : N.A Think Time : N.A

Minimum Instruction Time : 0

Correct Marks : 5 Wrong Marks : 1

Question Key Details :

Key	Value
Comprehension	MCQ

अंतर्राष्ट्रीय पर्यटन मेला FITUR 2023 कहाँ आयोजित हुआ था ?

- (1) टोक्यो
- (2) दिल्ली
- (3) बीजिंग
- (4) मैड्रिड

Options :

54025064673. 1

54025064674. 2

54025064675. 3

54025064676. 4

Question Number : 250 Question Id : 54025016170 Question Type : MCQ Option Shuffling : No

Is Question Mandatory : No Calculator : None Response Time : N.A Think Time : N.A

Minimum Instruction Time : 0

Correct Marks : 5 Wrong Marks : 1

Question Key Details :

Key	Value
Comprehension	MCQ

According to Times Higher Education report, 2022, which of the following university has topped the ranking list for the 7th consecutive times ?

- (1) Massachusetts Institute of Technology
- (2) Havard University
- (3) Cambridge University
- (4) Oxford University

Options :

54025064677. 1

54025064678. 2

54025064679. 3

54025064680. 4

Question Number : 250 Question Id : 54025016170 Question Type : MCQ Option Shuffling : No

Is Question Mandatory : No Calculator : None Response Time : N.A Think Time : N.A

Minimum Instruction Time : 0

Correct Marks : 5 Wrong Marks : 1

Question Key Details :

Key	Value
Comprehension	MCQ

टाइम्स उच्चतर शिक्षा रिपोर्ट, 2022 के अनुसार निम्नलिखित में से किस विश्वविद्यालय में लगातार 7वीं बार रैंकिंग सूची का शीर्ष स्थान हासिल किया है?

- (1) मेसाच्यूसेट्स प्रौद्योगिकी संस्थान
- (2) हावर्ड विश्वविद्यालय
- (3) कैम्ब्रिज विश्वविद्यालय
- (4) आक्सफोर्ड विश्वविद्यालय

Options :

54025064677. 1

54025064678. 2

54025064679. 3

54025064680. 4

Question Number : 251 Question Id : 54025016171 Question Type : MCQ Option Shuffling : No

Is Question Mandatory : No Calculator : None Response Time : N.A Think Time : N.A

Minimum Instruction Time : 0

Correct Marks : 5 Wrong Marks : 1

Question Key Details :

Key	Value
Comprehension	MCQ

'Bailey suspension Bridge' has been inaugurated in which state/UT ?

- (1) Assam
- (2) Arunachal Pradesh
- (3) Jammu and Kashmir
- (4) Karanataka

Options :

54025064681. 1

54025064682. 2

54025064683. 3

54025064684. 4

Question Number : 251 Question Id : 54025016171 Question Type : MCQ Option Shuffling : No

Is Question Mandatory : No Calculator : None Response Time : N.A Think Time : N.A

Minimum Instruction Time : 0

Correct Marks : 5 Wrong Marks : 1

Question Key Details :

Key	Value
Comprehension	MCQ

'बैली झूला पुल (बैली सस्पेंशन ब्रिज) का उद्घाटन किस राज्य/संघ शासित क्षेत्र में किया गया है ?

- (1) असम
- (2) अरुणाचल प्रदेश
- (3) जम्मू और कश्मीर
- (4) कर्नाटक

Options :

54025064681. 1

54025064682. 2

54025064683. 3

54025064684. 4

Question Number : 252 Question Id : 54025016172 Question Type : MCQ Option Shuffling : No

Is Question Mandatory : No Calculator : None Response Time : N.A Think Time : N.A

Minimum Instruction Time : 0

Correct Marks : 5 Wrong Marks : 1

Question Key Details :

Key	Value
Comprehension	MCQ

Indian Government launched NIPUN project on June 20, 2022. What does NIPUN stands for ?

- (1) National infrastructure for promoting Upskilling of Nirman workers
- (2) National Initiative for promotion of Upskilling of Nirman workers
- (3) Nation Institute for promoting Upskilling of Nirman workers
- (4) National integration for promoting understanding of National workers

Options :

54025064685. 1

54025064686. 2

54025064687. 3

54025064688. 4

Question Number : 252 Question Id : 54025016172 Question Type : MCQ Option Shuffling : No**Is Question Mandatory : No Calculator : None Response Time : N.A Think Time : N.A****Minimum Instruction Time : 0****Correct Marks : 5 Wrong Marks : 1****Question Key Details :**

Key	Value
Comprehension	MCQ

भारत सरकार ने 20 जून 2022 को निपुण (NIPUN) परियोजना का शुभारंभ किया। निपुण (NIPUN) का पूर्ण रूप है :

- (1) नेशनल इन्फ्रास्ट्रक्चर फॉर प्रोमोटिंग अपस्किलिंग ऑफ निर्माण वर्कर्स
- (2) नेशनल इनीशिएटिव फॉर प्रोमोटिंग अपस्किलिंग ऑफ निर्माण वर्कर्स
- (3) नेशन इन्स्टीट्यूट फॉर प्रोमोटिंग अपस्किलिंग ऑफ निर्माण वर्कर्स
- (4) नेशनल इन्टीग्रेशन फॉर प्रोमोटिंग अंडरस्टैंडिंग ऑफ नेशनल वर्कर्स

Options :

54025064685. 1

54025064686. 2

54025064687. 3

54025064688. 4

Question Number : 253 Question Id : 54025016173 Question Type : MCQ Option Shuffling : No**Is Question Mandatory : No Calculator : None Response Time : N.A Think Time : N.A****Minimum Instruction Time : 0****Correct Marks : 5 Wrong Marks : 1****Question Key Details :**

Key	Value
Comprehension	MCQ

Which country won the FIFA world cup 2022 ?

- (1) France
- (2) Argentina
- (3) Croatia
- (4) Moracco

Options :

54025064689. 1

54025064690. 2

54025064691. 3

54025064692. 4

Question Number : 253 Question Id : 54025016173 Question Type : MCQ Option Shuffling : No

Is Question Mandatory : No Calculator : None Response Time : N.A Think Time : N.A

Minimum Instruction Time : 0

Correct Marks : 5 Wrong Marks : 1

Question Key Details :

Key	Value
Comprehension	MCQ

फीफा विश्वकप 2022 किस देश ने जीता ?

- (1) फ्रांस
- (2) अर्जेन्टीना
- (3) क्रोएशिया
- (4) मोरक्को

Options :

54025064689. 1

54025064690. 2

54025064691. 3

54025064692. 4

**Question Number : 254 Question Id : 54025016174 Question Type : MCQ Option Shuffling : No
Is Question Mandatory : No Calculator : None Response Time : N.A Think Time : N.A
Minimum Instruction Time : 0**

Correct Marks : 5 Wrong Marks : 1

Question Key Details :

Key	Value
Comprehension	MCQ

Which is the largest ocean of the world ?

- (1) Indian ocean
- (2) Arctic ocean
- (3) Atlantic ocean
- (4) Pacific ocean

Options :

54025064693. 1

54025064694. 2

54025064695. 3

54025064696. 4

**Question Number : 254 Question Id : 54025016174 Question Type : MCQ Option Shuffling : No
Is Question Mandatory : No Calculator : None Response Time : N.A Think Time : N.A
Minimum Instruction Time : 0**

Correct Marks : 5 Wrong Marks : 1

Question Key Details :

Key	Value
Comprehension	MCQ

विश्व का सबसे बड़ा महासागर कौन है?

- (1) हिन्द महासागर
- (2) आर्कटिक महासागर
- (3) अटलांटिक महासागर
- (4) प्रशांत महासागर

Options :

54025064693. 1

54025064694. 2

54025064695. 3

54025064696. 4

Question Number : 255 Question Id : 54025016175 Question Type : MCQ Option Shuffling : No

Is Question Mandatory : No Calculator : None Response Time : N.A Think Time : N.A

Minimum Instruction Time : 0

Correct Marks : 5 Wrong Marks : 1

Question Key Details :

Key	Value
Comprehension	MCQ

Which planet is the closest to the sun ?

- (1) Venus
- (2) Mercury
- (3) Jupiter
- (4) Neptune

Options :

54025064697. 1

54025064698. 2

54025064699. 3

54025064700. 4

Question Number : 255 Question Id : 54025016175 Question Type : MCQ Option Shuffling : No

Is Question Mandatory : No Calculator : None Response Time : N.A Think Time : N.A

Minimum Instruction Time : 0

Correct Marks : 5 Wrong Marks : 1

Question Key Details :

Key	Value
Comprehension	MCQ

सूर्य के सबसे निकट ग्रह कौन सा है?

- (1) शुक्र
- (2) बुध
- (3) बृहस्पति
- (4) वरुण

Options :

54025064697. 1

54025064698. 2

54025064699. 3

54025064700. 4

Question Number : 256 Question Id : 54025016176 Question Type : MCQ Option Shuffling : No

Is Question Mandatory : No Calculator : None Response Time : N.A Think Time : N.A

Minimum Instruction Time : 0

Correct Marks : 5 Wrong Marks : 1

Question Key Details :

Key	Value
Comprehension	MCQ

The Indus River flows in India only through :

- (1) Allahabad
- (2) Madhya Pradesh
- (3) Jammu and Kashmir
- (4) Rajasthan

Options :

54025064701. 1

54025064702. 2

54025064703. 3

54025064704. 4

Question Number : 256 Question Id : 54025016176 Question Type : MCQ Option Shuffling : No

Is Question Mandatory : No Calculator : None Response Time : N.A Think Time : N.A

Minimum Instruction Time : 0

Correct Marks : 5 Wrong Marks : 1

Question Key Details :

Key	Value
Comprehension	MCQ

भारत में सिंधु नदी केवल निम्नलिखित में से प्रवाहित होती है :

- (1) इलाहाबाद
- (2) मध्य प्रदेश
- (3) जम्मू और कश्मीर
- (4) राजस्थान

Options :

54025064701. 1

54025064702. 2

54025064703. 3

54025064704. 4

Question Number : 257 Question Id : 54025016177 Question Type : MCQ Option Shuffling : No

Is Question Mandatory : No Calculator : None Response Time : N.A Think Time : N.A

Minimum Instruction Time : 0

Correct Marks : 5 Wrong Marks : 1

Question Key Details :

Key	Value
Comprehension	MCQ

Which of the following is a 'State' ?

- (1) Mizoram
- (2) Chandigarh
- (3) Laddakh
- (4) Ponducherry

Options :

54025064705. 1

54025064706. 2

54025064707. 3

54025064708. 4

Question Number : 257 Question Id : 54025016177 Question Type : MCQ Option Shuffling : No

Is Question Mandatory : No Calculator : None Response Time : N.A Think Time : N.A

Minimum Instruction Time : 0

Correct Marks : 5 Wrong Marks : 1

Question Key Details :

Key	Value
Comprehension	MCQ

निम्नलिखित में से 'राज्य' कौन सा है?

- (1) मिजोरम
- (2) चंडीगढ़
- (3) लद्दाख
- (4) पुडुचेरी

Options :

54025064705. 1

54025064706. 2

54025064707. 3

54025064708. 4

Question Number : 258 Question Id : 54025016178 Question Type : MCQ Option Shuffling : No

Is Question Mandatory : No Calculator : None Response Time : N.A Think Time : N.A

Minimum Instruction Time : 0

Correct Marks : 5 Wrong Marks : 1

Question Key Details :

Key	Value
Comprehension	MCQ

Finance Minister presented the Union Budget for 2021 - 2022 on :

- (1) 10 February 2021
- (2) 1 February 2021
- (3) 10 March 2021
- (4) 1 March 2021

Options :

54025064709. 1

54025064710. 2

54025064711. 3

54025064712. 4

Question Number : 258 Question Id : 54025016178 Question Type : MCQ Option Shuffling : No

Is Question Mandatory : No Calculator : None Response Time : N.A Think Time : N.A

Minimum Instruction Time : 0

Correct Marks : 5 Wrong Marks : 1

Question Key Details :

Key	Value
Comprehension	MCQ

वित्त मंत्री ने वर्ष 2021 - 2022 का केन्द्रीय बजट कब प्रस्तुत किया ?

- (1) 10 फरवरी 2021
- (2) 1 फरवरी 2021
- (3) 10 मार्च 2021
- (4) 1 मार्च 2021

Options :

54025064709. 1

54025064710. 2

54025064711. 3

54025064712. 4

Question Number : 259 Question Id : 54025016179 Question Type : MCQ Option Shuffling : No

Is Question Mandatory : No Calculator : None Response Time : N.A Think Time : N.A

Minimum Instruction Time : 0

Correct Marks : 5 Wrong Marks : 1

Question Key Details :

Key	Value
Comprehension	MCQ

What is under the PM Poshan Scheme as a part of which Tithi Bhojan will be encouraged ?

- (1) It's a society participation program under which people provide special food to specially abled people on special occasions.
- (2) It's a community participation program under which people provide special food to senior citizens on special occasions.
- (3) It's a community participation program under which people provide special food to children on special occasions.
- (4) It's an individual program under which a person provides normal food to children on daily basis.

Options :

54025064713. 1

54025064714. 2

54025064715. 3

54025064716. 4

Question Number : 259 Question Id : 54025016179 Question Type : MCQ Option Shuffling : No

Is Question Mandatory : No Calculator : None Response Time : N.A Think Time : N.A

Minimum Instruction Time : 0

Correct Marks : 5 Wrong Marks : 1

Question Key Details :

Key	Value
Comprehension	MCQ

पी एम पोषण योजना के अंतर्गत निम्नलिखित में से किसे तिथि भोजन के भाग के रूप में प्रोत्साहित किया जाएगा :

- (1) यह एक सामाजिक सहभागिता कार्यक्रम है जिसके अंतर्गत विशेष अवसरों पर विशेष रूप से समर्थ व्यक्तियों को लोगों द्वारा विशेष भोजन प्रदान किया जाता है।
- (2) यह एक सामुदायिक सहभागिता कार्यक्रम है जिसके अंतर्गत विशेष अवसरों पर वरिष्ठ नागरिकों को लोगों द्वारा विशेष भोजन प्रदान किया जाता है।
- (3) यह एक सामुदायिक सहभागिता कार्यक्रम है जिसके अंतर्गत लोग विशेष अवसरों पर बच्चों को विशेष भोजन प्रदान करते हैं
- (4) यह एक वैयक्तिक कार्यक्रम है जिसके अंतर्गत कोई व्यक्ति रोजाना बच्चों को सामान्य भोजन प्रदान करता है।

Options :

54025064713. 1

54025064714. 2

54025064715. 3

54025064716. 4

Question Number : 260 Question Id : 54025016180 Question Type : MCQ Option Shuffling : No

Is Question Mandatory : No Calculator : None Response Time : N.A Think Time : N.A

Minimum Instruction Time : 0

Correct Marks : 5 Wrong Marks : 1

Question Key Details :

Key	Value
Comprehension	MCQ

Tea cultivation requires :

- (1) warm and moist frost - free climate.
- (2) a cool growing season and bright sunshine at ripening.
- (3) high temperature above 25°C and high humidity.
- (4) hot and humid climate.

Options :

54025064717. 1

54025064718. 2

54025064719. 3

54025064720. 4

Question Number : 260 Question Id : 54025016180 Question Type : MCQ Option Shuffling : No

Is Question Mandatory : No Calculator : None Response Time : N.A Think Time : N.A

Minimum Instruction Time : 0

Correct Marks : 5 Wrong Marks : 1

Question Key Details :

Key	Value
Comprehension	MCQ

चाय की कृषि के लिए आवश्यक है :

- (1) उष्ण एवं आर्द्र शीत मुक्त जलवायु
- (2) उगने के समय शीतल ऋतु तथा पक्वन पर तेज धूप
- (3) 25°C से अधिक उच्च तापमान तथा उच्च आर्द्रता
- (4) उष्ण एवं आर्द्र जलवायु

Options :

54025064717. 1

54025064718. 2

54025064719. 3

54025064720. 4