

National Testing Agency

Question Paper Name : 03 23062023
Subject Name : 23Jun2023 Shift3 Subject Combination 1
Creation Date : 2023-06-23 21:21:04
Duration : 1320
Total Marks : 5600
Display Marks: Yes

Hindi

Group Number : 1
Group Id : 212807725
Group Maximum Duration : 45
Group Minimum Duration : 45
Show Attended Group? : No
Edit Attended Group? : No
Break time : 0
Group Marks : 200
Is this Group for Examiner? : No
Examiner permission : Cant View
Show Progress Bar? : No

Hindi

Section Id : 212807855
Section Number : 1
Section type : Online
Mandatory or Optional : Mandatory
Number of Questions : 50
Number of Questions to be attempted : 40
Section Marks : 200
Enable Mark as Answered Mark for Review and Clear Response : Yes
Maximum Instruction Time : 0
Sub-Section Number : 1
Sub-Section Id : 2128072456
Question Shuffling Allowed : No
Is Section Default? : null

Question Number : 1 Question Id : 21280732101 Question Type : MCQ Option Shuffling : No Is Question Mandatory : No Calculator : None Response Time : N.A Think Time : N.A Minimum Instruction Time : 0

Correct Marks : 5 Wrong Marks : 1

Question Key Details :

Key	Value
Comprehension	Comp1

निम्नलिखित गद्यांश को पढ़कर प्रश्नों को उत्तर दीजिए :

मास्टर जी के आने का समय जितना निश्चित था, जाने का समय उतना ही अनिश्चित था। वे कभी डेढ़ घंटा और कभी दो घण्टे पढ़ाते रहते थे। पढ़ते-पढ़ते पाँच बजने को आ जाते तो मेरे लिए 'नाउन' और 'एडजेक्टिव' में फ़र्क करना मुश्किल हो जाता। मैं जम्हाइयाँ लेता और बार-बार ऊबकर घड़ी की तरफ देखता। मगर मास्टर जी उस समय 'पास्ट पाटीसिपल' और 'परफ़ेक्ट पाटीसिपल' जैसी चीज़ों के बारे में जाने क्या-क्या बता रहे होते। पढ़ाई हो चुकने के बाद वे दस मिनट हमें जीवन के सम्बन्ध में शिक्षा दिया करते थे। वे दस मिनट बिताना मुझे सबसे मुश्किल लगता था। वे पानी के छोटे-छोटे घूँट भरते और जोश में आकर सुन्दर और असुन्दर के विषय में जाने क्या कह रहे होते, और मैं अपनी कॉपी घुटनों पर रखे हुए उसमें लिखने लगता।

मास्टर जी कितनी देर तक पढ़ाते थे ?

- (1) आधे घंटे तक
- (2) एक से दो घंटे तक
- (3) एक दिन तक
- (4) चार घंटे तक

Options :

212807128401. 1
212807128402. 2
212807128403. 3
212807128404. 4

Question Number : 2 Question Id : 21280732102 Question Type : MCQ Option Shuffling : No Is Question Mandatory : No Calculator : None
Response Time : N.A Think Time : N.A Minimum Instruction Time : 0
Correct Marks : 5 Wrong Marks : 1

Question Key Details :

Key	Value
Comprehension	Comp1

निम्नलिखित गद्यांश को पढ़कर प्रश्नों को उत्तर दीजिए :

मास्टर जी के आने का समय जितना निश्चित था, जाने का समय उतना ही अनिश्चित था। वे कभी डेढ़ घंटा और कभी दो घण्टे पढ़ाते रहते थे। पढ़ते-पढ़ते पाँच बजने को आ जाते तो मेरे लिए 'नाउन' और 'एडजेक्टिव' में फ़र्क करना मुश्किल हो जाता। मैं जम्हाइयाँ लेता और बार-बार ऊबकर घड़ी की तरफ देखता। मगर मास्टर जी उस समय 'पास्ट पाटीसिपल' और 'परफ़ेक्ट पाटीसिपल' जैसी चीज़ों के बारे में जाने क्या-क्या बता रहे होते। पढ़ाई हो चुकने के बाद वे दस मिनट हमें जीवन के सम्बन्ध में शिक्षा दिया करते थे। वे दस मिनट बिताना मुझे सबसे मुश्किल लगता था। वे पानी के छोटे-छोटे घूँट भरते और जोश में आकर सुन्दर और असुन्दर के विषय में जाने क्या कह रहे होते, और मैं अपनी कॉपी घुटनों पर रखे हुए उसमें लिखने लगता।

पढ़ाई समाप्त होने के बाद मास्टर जी क्या शिक्षा देते थे ?

- (1) जीवन के सम्बन्ध में
- (2) खेलने के सम्बन्ध में
- (3) व्यायाम के सम्बन्ध में
- (4) स्वास्थ्य जीवन के सम्बन्ध में

Options :

212807128405. 1
212807128406. 2
212807128407. 3
212807128408. 4

Question Number : 3 Question Id : 21280732103 Question Type : MCQ Option Shuffling : No Is Question Mandatory : No Calculator : None
Response Time : N.A Think Time : N.A Minimum Instruction Time : 0

Correct Marks : 5 Wrong Marks : 1

Question Key Details :

Key	Value
Comprehension	Comp1

निम्नलिखित गद्यांश को पढ़कर प्रश्नों को उत्तर दीजिए :

मास्टर जी के आने का समय जितना निश्चित था, जाने का समय उतना ही अनिश्चित था। वे कभी डेढ़ घंटा और कभी दो घण्टे पढ़ाते रहते थे। पढ़ते-पढ़ते पाँच बजने को आ जाते तो मेरे लिए 'नाउन' और 'एडजेक्टिव' में फ़र्क करना मुश्किल हो जाता। मैं जम्हाइयाँ लेता और बार-बार ऊबकर घड़ी की तरफ देखता। मगर मास्टर जी उस समय 'पास्ट पाटीसिपल' और 'परफ़ेक्ट पाटीसिपल' जैसी चीज़ों के बारे में जाने क्या-क्या बता रहे होते। पढ़ाई हो चुकने के बाद वे दस मिनट हमें जीवन के सम्बन्ध में शिक्षा दिया करते थे। वे दस मिनट बिताना मुझे सबसे मुश्किल लगता था। वे पानी के छोटे-छोटे घूँट भरते और जोश में आकर सुन्दर और असुन्दर के विषय में जाने क्या कह रहे होते, और मैं अपनी कॉपी घुटनों पर रखे हुए उसमें लिखने लगता।

'पानी के छोटे-छोटे घूँट भरते हुए' मास्टर जी क्या समझा रहे थे ?

- (1) नाउन और एडजेक्टिव के विषय में
- (2) जीवन के विषय में
- (3) सुन्दर और असुन्दर के विषय में
- (4) समय के विषय में

Options :

212807128409. 1

212807128410. 2

212807128411. 3

212807128412. 4

Question Number : 4 Question Id : 21280732104 Question Type : MCQ Option Shuffling : No Is Question Mandatory : No Calculator : None
Response Time : N.A Think Time : N.A Minimum Instruction Time : 0

Correct Marks : 5 Wrong Marks : 1

Question Key Details :

Key	Value
Comprehension	Comp1

निम्नलिखित गद्यांश को पढ़कर प्रश्नों को उत्तर दीजिए :

मास्टर जी के आने का समय जितना निश्चित था, जाने का समय उतना ही अनिश्चित था। वे कभी डेढ़ घंटा और कभी दो घण्टे पढ़ाते रहते थे। पढ़ते-पढ़ते पाँच बजने को आ जाते तो मेरे लिए 'नाउन' और 'एडजेक्टिव' में फ़र्क करना मुश्किल हो जाता। मैं जम्हाइयाँ लेता और बार-बार ऊबकर घड़ी की तरफ देखता। मगर मास्टर जी उस समय 'पास्ट पाटीसिपल' और 'परफेक्ट पाटीसिपल' जैसी चीज़ों के बारे में जाने क्या-क्या बता रहे होते। पढ़ाई हो चुकने के बाद वे दस मिनट हमें जीवन के सम्बन्ध में शिक्षा दिया करते थे। वे दस मिनट बिताना मुझे सबसे मुश्किल लगता था। वे पानी के छोटे-छोटे घूँट भरते और जोश में आकर सुन्दर और असुन्दर के विषय में जाने क्या कह रहे होते, और मैं अपनी कॉपी घुटनों पर रखे हुए उसमें लिखने लगता।

निम्न में से कौन-सा शब्द विदेशी शब्द नहीं है :

- (1) नाउन
- (2) एडजेक्टिव
- (3) परफेक्ट
- (4) समय

Options :

212807128413. 1
212807128414. 2
212807128415. 3
212807128416. 4

Question Number : 5 Question Id : 21280732105 Question Type : MCQ Option Shuffling : No Is Question Mandatory : No Calculator : None
Response Time : N.A Think Time : N.A Minimum Instruction Time : 0
Correct Marks : 5 Wrong Marks : 1

Question Key Details :

Key	Value
Comprehension	Compl

निम्नलिखित गद्यांश को पढ़कर प्रश्नों को उत्तर दीजिए :

मास्टर जी के आने का समय जितना निश्चित था, जाने का समय उतना ही अनिश्चित था। वे कभी डेढ़ घंटा और कभी दो घण्टे पढ़ाते रहते थे। पढ़ते-पढ़ते पाँच बजने को आ जाते तो मेरे लिए 'नाउन' और 'एडजेक्टिव' में फ़र्क करना मुश्किल हो जाता। मैं जम्हाइयाँ लेता और बार-बार ऊबकर घड़ी की तरफ देखता। मगर मास्टर जी उस समय 'पास्ट पाटीसिपल' और 'परफेक्ट पाटीसिपल' जैसी चीज़ों के बारे में जाने क्या-क्या बता रहे होते। पढ़ाई हो चुकने के बाद वे दस मिनट हमें जीवन के सम्बन्ध में शिक्षा दिया करते थे। वे दस मिनट बिताना मुझे सबसे मुश्किल लगता था। वे पानी के छोटे-छोटे घूँट भरते और जोश में आकर सुन्दर और असुन्दर के विषय में जाने क्या कह रहे होते, और मैं अपनी कॉपी घुटनों पर रखे हुए उसमें लिखने लगता।

'निश्चित' शब्द का विलोम शब्द है :

- (1) अनिश्चित
- (2) पक्का
- (3) बिलकुल
- (4) संभव

Options :

212807128417. 1
212807128418. 2
212807128419. 3
212807128420. 4

Sub-Section Number : 2
Sub-Section Id : 2128072457
Question Shuffling Allowed : No
Is Section Default? : null

Question Number : 6 Question Id : 21280732106 Question Type : MCQ Option Shuffling : No Is Question Mandatory : No Calculator : None
Response Time : N.A Think Time : N.A Minimum Instruction Time : 0
Correct Marks : 5 Wrong Marks : 1

Question Key Details :

Key	Value
Comprehension	Comp2

निम्नलिखित पद्यांश को पढ़कर प्रश्नों के उत्तर दीजिए।

आज कज्जल-अश्रुओं में रिमझिमा ले यह घिरा घन,
और होंगे नयन सूखे,
तिल बुझे औ' पलक रूखे,
आर्द्र-चितवन में यहाँ शत-विद्युतों में दीप खेला !
अन्य होंगे चरण हारे,
और हैं जो लौटते, दे शूल को संकल्प सारे;
दुखव्रती निर्माण-उन्मद;
यह अमरता नापते पद,
बाँध देंगे अंक-संस्मृति-से तिमिर में स्वर्ण-वेला !
दूसरी होगी कहानी,
शून्य में जिस के मिटे स्वर, धूलि में खोई निशानी,
आज जिस पर प्रलय विस्मित,
मैं लगाती चल रही नित,
मोतियों की हाट औ' चिनगारियों का एक मेला !

'तिमिर' शब्द का विलोम बताइए :

- (1) प्रकाश
- (2) अंधकार
- (3) रोशनी
- (4) अंधेरा

Options :

212807128421. 1
212807128422. 2
212807128423. 3
212807128424. 4

Question Number : 7 Question Id : 21280732107 Question Type : MCQ Option Shuffling : No Is Question Mandatory : No Calculator : None
Response Time : N.A Think Time : N.A Minimum Instruction Time : 0
Correct Marks : 5 Wrong Marks : 1

Question Key Details :

Key	Value
Comprehension	Comp2

निम्नलिखित पद्यांश को पढ़कर प्रश्नों के उत्तर दीजिए।

आज कज्जल-अश्रुओं में रिमझिमा ले यह घिरा घन,
और होंगे नयन सूखे,
तिल बुझे औ' पलक रूखे,
आर्द्र-चितवन में यहाँ शत-विद्युतों में दीप खेला !

अन्य होंगे चरण हारे,
और हैं जो लौटते, दे शूल को संकल्प सारे;
दुखव्रती निर्माण-उन्मद;
यह अमरता नापते पद,
बाँध देंगे अंक-संसृति-से तिमिर में स्वर्ण-वेला !

दूसरी होगी कहानी,
शून्य में जिस के मिटे स्वर, धूलि में खोई निशानी,
आज जिस पर प्रलय विस्मित,
मैं लगाती चल रही नित,
मोतियों की हाट औ' चिनगारियों का एक मेला !

पद्यांश के अनुसार क्रम लगाइए :

आज कज्जल-अश्रुओं में

- (A) नयन सूखे
- (B) अमरता नापते पद
- (C) पलक रूके
- (D) जिस पर प्रलय विस्मित
- (E) रिमझिमा ले यह घिरा घन

नीचे दिए गए विकल्पों में से सही उत्तर का चयन कीजिए।

- (1) (A), (B), (C), (D), (E)
- (2) (A), (E), (D), (C), (B)
- (3) (E), (A), (C), (C), (D)
- (4) (D), (B), (C), (A), (E)

Options :

- 212807128425. 1
- 212807128426. 2
- 212807128427. 3
- 212807128428. 4

Question Number : 8 Question Id : 21280732108 Question Type : MCQ Option Shuffling : No Is Question Mandatory : No Calculator : None
Response Time : N.A Think Time : N.A Minimum Instruction Time : 0

Correct Marks : 5 Wrong Marks : 1

Question Key Details :

Key	Value
Comprehension	Comp2

निम्नलिखित पद्यांश को पढ़कर प्रश्नों के उत्तर दीजिए।

आज कज्जल-अश्रुओं में रिमझिमा ले यह घिरा घन,
और होंगे नयन सूखे,
तिल बुझे औ' पलक रूखे,
आर्द्र-चितवन में यहाँ शत-विद्युतों में दीप खेला !

अन्य होंगे चरण हारे,
और हैं जो लौटते, दे शूल को संकल्प सारे;
दुखव्रती निर्माण-उन्मद;
यह अमरता नापते पद,
बाँध देंगे अंक-संसृति-से तिमिर में स्वर्ण-वेला !

दूसरी होगी कहानी,
शून्य में जिस के मिटे स्वर, धूलि में खोई निशानी,
आज जिस पर प्रलय विस्मित,
मैं लगाती चल रही नित,
मोतियों की हाट औ' चिनगारियों का एक मेला !

'अमरता' शब्द में प्रत्यय होगा :

- (1) रता
- (2) ता
- (3) अमर
- (4) मरता

Options :

212807128429. 1
212807128430. 2
212807128431. 3
212807128432. 4

Question Number : 9 Question Id : 21280732109 Question Type : MCQ Option Shuffling : No Is Question Mandatory : No Calculator : None
Response Time : N.A Think Time : N.A Minimum Instruction Time : 0

Correct Marks : 5 Wrong Marks : 1

Question Key Details :

Key	Value
Comprehension	Comp2

निम्नलिखित पद्यांश को पढ़कर प्रश्नों के उत्तर दीजिए।

आज कज्जल-अश्रुओं में रिमझिमा ले यह घिरा घन,
और होंगे नयन सूखे,
तिल बुझे औ ' पलक रूखे,
आर्द्र-चितवन में यहाँ शत-विद्युतों में दीप खेला !

अन्य होंगे चरण हारे,
और हैं जो लौटते, दे शूल को संकल्प सारे;
दुखव्रती निर्माण-उन्मद;
यह अमरता नापते पद,
बाँध देंगे अंक-संसृति-से तिमिर में स्वर्ण-वेला !

दूसरी होगी कहानी,
शून्य में जिस के मिटे स्वर, धूलि में खोई निशानी,
आज जिस पर प्रलय विस्मित,
मैं लगाती चल रही नित,
मोतियों की हाट औ ' चिनगारियों का एक मेला !

पद्यांश के अनुसार 'कज्जल-अश्रुओं' से आशय होगा :

- (1) कजरारी आँखों में आँसू
- (2) काजल से भरी आँखों में आँसू
- (3) आँसुओं से भरी आँखे
- (4) कज्जल से भरी आँखे

Options :

212807128433. 1
212807128434. 2
212807128435. 3
212807128436. 4

Question Number : 10 Question Id : 21280732110 Question Type : MCQ Option Shuffling : No Is Question Mandatory : No Calculator : None
Response Time : N.A Think Time : N.A Minimum Instruction Time : 0

Correct Marks : 5 Wrong Marks : 1

Question Key Details :

Key	Value
Comprehension	Comp2

निम्नलिखित पद्यांश को पढ़कर प्रश्नों के उत्तर दीजिए।

आज कज्जल-अश्रुओं में रिमझिमा ले यह घिरा घन,
और होंगे नयन सूखे,
तिल बुझे औ' पलक रूखे,
आर्द्र-चितवन में यहाँ शत-विद्युतों में दीप खेला !

अन्य होंगे चरण हारे,
और हैं जो लौटते, दे शूल को संकल्प सारे;
दुखव्रती निर्माण-उन्मद;
यह अमरता नापते पद,
बाँध देंगे अंक-संसृति-से तिमिर में स्वर्ण-वेला !

दूसरी होगी कहानी,
शून्य में जिस के मिटे स्वर, धूलि में खोई निशानी,
आज जिस पर प्रलय विस्मित,
मैं लगाती चल रही नित,
मोतियों की हाट औ' चिनगारियों का एक मेला !

पद्यांश के अनुसार 'अंक' शब्द का अनेकार्थी नहीं है :

- (1) संख्या
- (2) गोद
- (3) भाग्य रेखा
- (4) अंश

Options :

212807128437. 1
212807128438. 2
212807128439. 3
212807128440. 4

Sub-Section Number : 3
Sub-Section Id : 2128072458
Question Shuffling Allowed : No
Is Section Default? : null

Question Number : 11 Question Id : 21280732111 Question Type : MCQ Option Shuffling : No Is Question Mandatory : No Calculator : None
Response Time : N.A Think Time : N.A Minimum Instruction Time : 0
Correct Marks : 5 Wrong Marks : 1

Question Key Details :

Key	Value
Comprehension	Comp3

निम्नलिखित अनुच्छेद पर आधारित प्रश्नों के उत्तर दीजिए।

अहिंसा का मतलब सनक या कमजोरी नहीं है। भाग जाना अहिंसा नहीं है। यदि शत्रु के सामने निःशस्त्र खड़े रहने की तैयारी न हो तो उसके ऊपर प्रहार की तैयारी से खड़े रहो। लेकिन भाग जाना तो पूरी तरह त्याज्य और निन्द्य है। इसी बात को गांधी जी ने सौ बार कहा है, “यदि आप शस्त्रों से स्वराज्य ले सकते हैं, तो आप उसे ले लीजिए। मैं दूर खड़ा रहूँगा। लेकिन गुलाम मत रहिए और शस्त्रों से न लड़ सकें तो निःशस्त्र लड़ाई में शामिल हो जाइए”। स्वतन्त्रता की लड़ाई तो हमें चालू रखनी ही पड़ेगी। भयभीत होकर सच्चाई के मार्ग से विमुख हो जाना, अहिंसा नहीं कायरता है। इसी कायरता के कारण जातियाँ गुलाम होती हैं। गुलामी में सड़ते रहना तो मनुष्यों को शोभा नहीं देता। गाँधी जी यह कहना नहीं था कि कल देखते-देखते सारी सेनाएँ मिट जाएँगी। भारत को भी सेना, शस्त्रास्त्र सबकी जरूरत पड़ेगी। गति के अठारहवें अध्याय में कहा है कि मारने पर भी मरना नहीं होता है। लेकिन यह स्थिति किसकी है? जिसे सारा विश्व अपने जैसा दिखाई देता है, उसके मारने में जीवन ही है। माँ बच्चे को मारती है, पर बच्चा माँ की गोदी में ही छिपकर रोता है इसलिए माँ का मारना, मारना नहीं होता। राम ने रावण को मारा, लेकिन हम कहते हैं कि उससे रावण का उद्धार हो गया, तो राम का मारना भी हिंसा नहीं कहा जाता, वह तो उद्धार करने वाला मारना था। इस अनुच्छेद के अनुसार – ‘अहिंसा का मतलब कमजोरी नहीं है? इससे क्या अभिप्राय है?’

- (1) सनक
- (2) भाग जाना
- (3) शत्रु के ऊपर प्रहार की तैयारी करना
- (4) भाग जाना त्याज्य और निन्द्य है

Options :

212807128441. 1
212807128442. 2
212807128443. 3
212807128444. 4

Question Number : 12 Question Id : 21280732112 Question Type : MCQ Option Shuffling : No Is Question Mandatory : No Calculator : None
Response Time : N.A Think Time : N.A Minimum Instruction Time : 0

Correct Marks : 5 Wrong Marks : 1

Question Key Details :

Key	Value
Comprehension	Comp3

निम्नलिखित अनुच्छेद पर आधारित प्रश्नों के उत्तर दीजिए।

अहिंसा का मतलब सनक या कमजोरी नहीं है। भाग जाना अहिंसा नहीं है। यदि शत्रु के सामने निःशस्त्र खड़े रहने की तैयारी न हो तो उसके ऊपर प्रहार की तैयारी से खड़े रहो। लेकिन भाग जाना तो पूरी तरह त्याज्य और निन्द्य है। इसी बात को गांधी जी ने सौ बार कहा है, “यदि आप शस्त्रों से स्वराज्य ले सकते हैं, तो आप उसे ले लीजिए। मैं दूर खड़ा रहूँगा। लेकिन गुलाम मत रहिए और शस्त्रों से न लड़ सकें तो निःशस्त्र लड़ाई में शामिल हो जाइए”। स्वतन्त्रता की लड़ाई तो हमें चालू रखनी ही पड़ेगी। भयभीत होकर सच्चाई के मार्ग से विमुख हो जाना, अहिंसा नहीं कायरता है। इसी कायरता के कारण जातियाँ गुलाम होती हैं। गुलामी में सड़ते रहना तो मनुष्यों को शोभा नहीं देता। गाँधी जी यह कहना नहीं था कि कल देखते-देखते सारी सेनाएँ मिट जाएँगी। भारत को भी सेना, शस्त्रास्त्र सबकी जरूरत पड़ेगी। गति के अठारहवें अध्याय में कहा है कि मारने पर भी मरना नहीं होता है। लेकिन यह स्थिति किसकी है? जिसे सारा विश्व अपने जैसा दिखाई देता है, उसके मारने में जीवन ही है। माँ बच्चे को मारती है, पर बच्चा माँ की गोदी में ही छिपकर रोता है इसलिए माँ का मारना, मारना नहीं होता। राम ने रावण को मारा, लेकिन हम कहते हैं कि उससे रावण का उद्धार हो गया, तो राम का मारना भी हिंसा नहीं कहा जाता, वह तो उद्धार करने वाला मारना था। राम द्वारा रावण को मारना हिंसा क्यों नहीं माना जाता?

- (1) राम भगवान हैं।
- (2) रावण ने सीता का हरण किया था।
- (3) रावण का व्यक्तित्व अच्छा नहीं थी।
- (4) रावण का उद्धार हुआ था।

Options :

212807128445. 1
212807128446. 2
212807128447. 3
212807128448. 4

Question Number : 13 Question Id : 21280732113 Question Type : MCQ Option Shuffling : No Is Question Mandatory : No Calculator : None
Response Time : N.A Think Time : N.A Minimum Instruction Time : 0

Correct Marks : 5 Wrong Marks : 1

Question Key Details :

Key	Value
Comprehension	Comp3

निम्नलिखित अनुच्छेद पर आधारित प्रश्नों के उत्तर दीजिए।

अहिंसा का मतलब सनक या कमजोरी नहीं है। भाग जाना अहिंसा नहीं है। यदि शत्रु के सामने निःशस्त्र खड़े रहने की तैयारी न हो तो उसके ऊपर प्रहार की तैयारी से खड़े रहो। लेकिन भाग जाना तो पूरी तरह त्याज्य और निन्द्य है। इसी बात को गांधी जी ने सौ बार कहा है, “यदि आप शस्त्रों से स्वराज्य ले सकते हैं, तो आप उसे ले लीजिए। मैं दूर खड़ा रहूँगा। लेकिन गुलाम मत रहिए और शस्त्रों से न लड़ सकें तो निःशस्त्र लड़ाई में शामिल हो जाइए”। स्वतन्त्रता की लड़ाई तो हमें चालू रखनी ही पड़ेगी। भयभीत होकर सच्चाई के मार्ग से विमुख हो जाना, अहिंसा नहीं कायरता है। इसी कायरता के कारण जातियाँ गुलाम होती हैं। गुलामी में सड़ते रहना तो मनुष्यों को शोभा नहीं देता। गाँधी जी यह कहना नहीं था कि कल देखते-देखते सारी सेनाएँ मिट जाएँगी। भारत को भी सेना, शस्त्रास्त्र सबकी जरूरत पड़ेगी। गति के अठारहवें अध्याय में कहा है कि मारने पर भी मरना नहीं होता है। लेकिन यह स्थिति किसकी है? जिसे सारा विश्व अपने जैसा दिखाई देता है, उसके मारने में जीवन ही है। माँ बच्चे को मारती है, पर बच्चा माँ की गोदी में ही छिपकर रोता है इसलिए माँ का मारना, मारना नहीं होता। राम ने रावण को मारा, लेकिन हम कहते हैं कि उससे रावण का उद्धार हो गया, तो राम का मारना भी हिंसा नहीं कहा जाता, वह तो उद्धार करने वाला मारना था। माँ द्वारा बच्चे को मारना ‘मारना’ क्यों नहीं होता?

- (1) माँ की ममता
- (2) परिस्थिति
- (3) माँ हृदय से बच्चे का भला चाहती है।
- (4) बच्चा माँ से प्रेम करता है।

Options :

212807128449. 1
212807128450. 2
212807128451. 3
212807128452. 4

Question Number : 14 Question Id : 21280732114 Question Type : MCQ Option Shuffling : No Is Question Mandatory : No Calculator : None
Response Time : N.A Think Time : N.A Minimum Instruction Time : 0

Correct Marks : 5 Wrong Marks : 1

Question Key Details :

Key	Value
Comprehension	Comp3

निम्नलिखित अनुच्छेद पर आधारित प्रश्नों के उत्तर दीजिए।

अहिंसा का मतलब सनक या कमजोरी नहीं है। भाग जाना अहिंसा नहीं है। यदि शत्रु के सामने निःशस्त्र खड़े रहने की तैयारी न हो तो उसके ऊपर प्रहार की तैयारी से खड़े रहो। लेकिन भाग जाना तो पूरी तरह त्याग्य और निन्द्य है। इसी बात को गांधी जी ने सौ बार कहा है, “यदि आप शस्त्रों से स्वराज्य ले सकते हैं, तो आप उसे ले लीजिए। मैं दूर खड़ा रहूँगा। लेकिन गुलाम मत रहिए और शस्त्रों से न लड़ सकें तो निःशस्त्र लड़ाई में शामिल हो जाइए”। स्वतन्त्रता की लड़ाई तो हमें चालू रखनी ही पड़ेगी। भयभीत होकर सच्चाई के मार्ग से विमुख हो जाना, अहिंसा नहीं कायरता है। इसी कायरता के कारण जातियाँ गुलाम होती हैं। गुलामी में सड़ते रहना तो मनुष्यों को शोभा नहीं देता। गाँधी जी यह कहना नहीं था कि कल देखते-देखते सारी सेनाएँ मिट जाएँगी। भारत को भी सेना, शस्त्रास्त्र सबकी जरूरत पड़ेगी। गति के अठारहवें अध्याय में कहा है कि मारने पर भी मरना नहीं होता है। लेकिन यह स्थिति किसकी है? जिसे सारा विश्व अपने जैसा दिखाई देता है, उसके मारने में जीवन ही है। माँ बच्चे को मारती है, पर बच्चा माँ की गोदी में ही छिपकर रोता है इसलिए माँ का मारना, मारना नहीं होता। राम ने रावण को मारा, लेकिन हम कहते हैं कि उससे रावण का उद्धार हो गया, तो राम का मारना भी हिंसा नहीं कहा जाता, वह तो उद्धार करने वाला मारना था।

‘कायरता’ क्या है? का उत्तर अनुच्छेद से दीजिए :

- (A) भागा जाना
- (B) छिप जाना
- (C) डर जाना
- (D) सच्चाई के मार्ग से विमुख हो जाना
- (E) लड़ाई करना

नीचे दिए गए विकल्पों में से सही उत्तर का चयन कीजिए।

- (1) केवल (A), (B), (C)
- (2) केवल (D)
- (3) केवल (D), (E)
- (4) (A), (B), (C), (D), (E)

Options :

- 212807128453. 1
- 212807128454. 2
- 212807128455. 3
- 212807128456. 4

Question Number : 15 Question Id : 21280732115 Question Type : MCQ Option Shuffling : No Is Question Mandatory : No Calculator : None Response Time : N.A Think Time : N.A Minimum Instruction Time : 0

Correct Marks : 5 Wrong Marks : 1

Question Key Details :

Key	Value
Comprehension	Comp3

निम्नलिखित अनुच्छेद पर आधारित प्रश्नों के उत्तर दीजिए।

अहिंसा का मतलब सनक या कमजोरी नहीं है। भाग जाना अहिंसा नहीं है। यदि शत्रु के सामने निःशस्त्र खड़े रहने की तैयारी न हो तो उसके ऊपर प्रहार की तैयारी से खड़े रहो। लेकिन भाग जाना तो पूरी तरह त्याज्य और निन्द्य है। इसी बात को गांधी जी ने सौ बार कहा है, “यदि आप शस्त्रों से स्वराज्य ले सकते हैं, तो आप उसे ले लीजिए। मैं दूर खड़ा रहूँगा। लेकिन गुलाम मत रहिए और शस्त्रों से न लड़ सकें तो निःशस्त्र लड़ाई में शामिल हो जाइए”। स्वतन्त्रता की लड़ाई तो हमें चालू रखनी ही पड़ेगी। भयभीत होकर सच्चाई के मार्ग से विमुख हो जाना, अहिंसा नहीं कायरता है। इसी कायरता के कारण जातियाँ गुलाम होती हैं। गुलामी में सड़ते रहना तो मनुष्यों को शोभा नहीं देता। गाँधी जी यह कहना नहीं था कि कल देखते-देखते सारी सेनाएँ मिट जाएँगी। भारत को भी सेना, शस्त्रास्त्र सबकी जरूरत पड़ेगी। गति के अठारहवें अध्याय में कहा है कि मारने पर भी मरना नहीं होता है। लेकिन यह स्थिति किसकी है? जिसे सारा विश्व अपने जैसा दिखाई देता है, उसके मारने में जीवन ही है। माँ बच्चे को मारती है, पर बच्चा माँ की गोदी में ही छिपकर रोता है इसलिए माँ का मारना, मारना नहीं होता। राम ने रावण को मारा, लेकिन हम कहते हैं कि उससे रावण का उद्धार हो गया, तो राम का मारना भी हिंसा नहीं कहा जाता, वह तो उद्धार करने वाला मारना था।

‘अहिंसा’ का विलोम क्या होगा?

- (1) न लड़ना
- (2) हिंसा
- (3) कायरता
- (4) लड़ाई

Options :

212807128457. 1
212807128458. 2
212807128459. 3
212807128460. 4

Sub-Section Number :	4
Sub-Section Id :	2128072459
Question Shuffling Allowed :	Yes
Is Section Default? :	null

Question Number : 16 Question Id : 21280732066 Question Type : MCQ Option Shuffling : No Is Question Mandatory : No Calculator : None
Response Time : N.A Think Time : N.A Minimum Instruction Time : 0

Correct Marks : 5 Wrong Marks : 1

Question Key Details :

Key	Value
Comprehension	MCQ

निम्नलिखित मुहावरे का सही अर्थ चुनिए।

लकीर का फकीर होना :

- (1) उदासीन होना
- (2) पुरानी प्रथा पर ही चलना
- (3) आमने सामने होना
- (4) सावधान होना

Options :

212807128261. 1
212807128262. 2
212807128263. 3
212807128264. 4

Question Number : 17 Question Id : 21280732067 Question Type : MCQ Option Shuffling : No Is Question Mandatory : No Calculator : None
Response Time : N.A Think Time : N.A Minimum Instruction Time : 0

Correct Marks : 5 Wrong Marks : 1

Question Key Details :

Key	Value
Comprehension	MCQ

‘ऊँट के मुँह में जीरा’ लोकोक्ति का अर्थ है :

- (1) एक वस्तु अनेक ग्राहक
- (2) बड़े को थोड़ी वस्तु देना
- (3) गुणों के विरुद्ध नाम होना
- (4) ऊँट को खाना खिलाना

Options :

212807128265. 1
212807128266. 2
212807128267. 3
212807128268. 4

Question Number : 18 Question Id : 21280732068 Question Type : MCQ Option Shuffling : No Is Question Mandatory : No Calculator : None
Response Time : N.A Think Time : N.A Minimum Instruction Time : 0

Correct Marks : 5 Wrong Marks : 1

Question Key Details :

Key	Value
Comprehension	MCQ

‘विमर्श’ शब्द में उपसर्ग होगा :

- (1) विम
- (2) मर्श
- (3) वि
- (4) विम्

Options :

212807128269. 1
212807128270. 2
212807128271. 3
212807128272. 4

Question Number : 19 Question Id : 21280732069 Question Type : MCQ Option Shuffling : No Is Question Mandatory : No Calculator : None
Response Time : N.A Think Time : N.A Minimum Instruction Time : 0

Correct Marks : 5 Wrong Marks : 1

Question Key Details :

Key	Value
Comprehension	MCQ

निम्नलिखित शब्दों में से किस शब्द में कृत् प्रत्यय है :

- (1) सुनार
- (2) भलाई
- (3) ममेरा
- (4) हँसी

Options :

212807128273. 1
212807128274. 2
212807128275. 3
212807128276. 4

Question Number : 20 Question Id : 21280732070 Question Type : MCQ Option Shuffling : No Is Question Mandatory : No Calculator : None
Response Time : N.A Think Time : N.A Minimum Instruction Time : 0

Correct Marks : 5 Wrong Marks : 1

Question Key Details :

Key	Value
Comprehension	MCQ

वाक्य में उपयुक्त विशेषण लगाकर पूरा करे।

वाक्य = तुम बगीचे से _____ फूल ला रहे हो।

- (1) मौली
- (2) गैदा
- (3) लाल
- (4) कमल

Options :

212807128277. 1
212807128278. 2
212807128279. 3
212807128280. 4

Question Number : 21 Question Id : 21280732071 Question Type : MCQ Option Shuffling : No Is Question Mandatory : No Calculator : None
Response Time : N.A Think Time : N.A Minimum Instruction Time : 0

Correct Marks : 5 Wrong Marks : 1

Question Key Details :

Key	Value
Comprehension	MCQ

क्या कल हमने ताजमहल देखा - वाक्य में विशेष्य होगा :

- (1) हमने
- (2) कल
- (3) ताजमहल
- (4) देखा

Options :

212807128281. 1
212807128282. 2
212807128283. 3
212807128284. 4

Question Number : 22 Question Id : 21280732072 Question Type : MCQ Option Shuffling : No Is Question Mandatory : No Calculator : None
Response Time : N.A Think Time : N.A Minimum Instruction Time : 0

Correct Marks : 5 Wrong Marks : 1

Question Key Details :

Key	Value
Comprehension	MCQ

'सम्प्रदान कारक' का चिह्न निम्नलिखित वाक्यों में से किसमें प्रयुक्त हुआ है ?

- (1) वह फूलों को बेचता है।
- (2) उसने ब्राह्मण को बहुत सताया था।
- (3) प्यासे को पानी देना चाहिए।
- (4) बच्चे पेंसिल से लिखते हैं।

Options :

212807128285. 1
212807128286. 2
212807128287. 3
212807128288. 4

Question Number : 23 Question Id : 21280732073 Question Type : MCQ Option Shuffling : No Is Question Mandatory : No Calculator : None
Response Time : N.A Think Time : N.A Minimum Instruction Time : 0

Correct Marks : 5 Wrong Marks : 1

Question Key Details :

Key	Value
Comprehension	MCQ

'चित्र में तीन मजदूर हैं' वाक्य में कौन सा कारक है ?

- (1) अधिकरण कारक
- (2) अपादान कारक
- (3) कर्म कारक
- (4) करण कारक

Options :

212807128289. 1
212807128290. 2
212807128291. 3
212807128292. 4

Question Number : 24 Question Id : 21280732074 Question Type : MCQ Option Shuffling : No Is Question Mandatory : No Calculator : None
Response Time : N.A Think Time : N.A Minimum Instruction Time : 0

Correct Marks : 5 Wrong Marks : 1

Question Key Details :

Key	Value
Comprehension	MCQ

वाक्य में से क्रिया शब्द चयन कीजिए।

वाक्य-कहो, तो मैं तुम्हें अपने जीवन का सारा किस्सा सुना दूँ :

- (A) कहो तो
- (B) सुना दूँ
- (C) जीवन का
- (D) सारा
- (E) किस्सा

नीचे दिए गए विकल्पों में से सही उत्तर का चयन कीजिए।

- (1) केवल (A), (B)
- (2) केवल (B)
- (3) केवल (C), (D)
- (4) केवल (E)

Options :

212807128293. 1
212807128294. 2
212807128295. 3
212807128296. 4

Question Number : 25 Question Id : 21280732075 Question Type : MCQ Option Shuffling : No Is Question Mandatory : No Calculator : None
Response Time : N.A Think Time : N.A Minimum Instruction Time : 0

Correct Marks : 5 Wrong Marks : 1

Question Key Details :

Key	Value
Comprehension	MCQ

सूची - I के साथ सूची - II का मिलान कीजिए :

सूची - I

- (A) उसने खाना खा लिया है
(B) पंडित जी सुविधा से पालथी मारे बैठे थे।
(C) बोतल भरी है
(D) कर्ण अपना सब कुछ दे सकता है

सूची - II

- (I) अकर्मक क्रिया
(II) शक्ति बोधक क्रिया
(III) संयुक्त क्रिया
(IV) सकर्मक क्रिया

नीचे दिए गए विकल्पों में से सही उत्तर का चयन कीजिए।

- (1) (A)-(IV), (B)-(I), (C)-(II), (D)-(III)
(2) (A)-(III), (B)-(IV), (C)-(I), (D)-(II)
(3) (A)-(I), (B)-(II), (C)-(III), (D)-(IV)
(4) (A)-(IV), (B)-(III), (C)-(II), (D)-(I)

Options :

212807128297. 1
212807128298. 2
212807128299. 3
212807128300. 4

Question Number : 26 Question Id : 21280732076 Question Type : MCQ Option Shuffling : No Is Question Mandatory : No Calculator : None
Response Time : N.A Think Time : N.A Minimum Instruction Time : 0

Correct Marks : 5 Wrong Marks : 1

Question Key Details :

Key	Value
Comprehension	MCQ

‘अव्यय’ शब्द का उदाहरण निम्नलिखित शब्दों में से कौन-सा है ?

- (1) जाता
(2) मैं
(3) परंतु
(4) अच्छा

Options :

212807128301. 1
212807128302. 2
212807128303. 3
212807128304. 4

Question Number : 27 Question Id : 21280732077 Question Type : MCQ Option Shuffling : No Is Question Mandatory : No Calculator : None
Response Time : N.A Think Time : N.A Minimum Instruction Time : 0

Correct Marks : 5 Wrong Marks : 1

Question Key Details :

Key	Value
Comprehension	MCQ

‘निष्कपट’ में कौन सी संधि है :

- (1) स्वर संधि
- (2) व्यंजन संधि
- (3) विसर्ग संधि
- (4) गुण संधि

Options :

212807128305. 1
212807128306. 2
212807128307. 3
212807128308. 4

Question Number : 28 Question Id : 21280732078 Question Type : MCQ Option Shuffling : No Is Question Mandatory : No Calculator : None
Response Time : N.A Think Time : N.A Minimum Instruction Time : 0

Correct Marks : 5 Wrong Marks : 1

Question Key Details :

Key	Value
Comprehension	MCQ

‘महत्त्व’ शब्द का सन्धि - विच्छेद कीजिए :

- (1) मह + त्व
- (2) महत् + त्व
- (3) महान् + त्व
- (4) महत् + व

Options :

212807128309. 1
212807128310. 2
212807128311. 3
212807128312. 4

Question Number : 29 Question Id : 21280732079 Question Type : MCQ Option Shuffling : No Is Question Mandatory : No Calculator : None
Response Time : N.A Think Time : N.A Minimum Instruction Time : 0

Correct Marks : 5 Wrong Marks : 1

Question Key Details :

Key	Value
Comprehension	MCQ

श्री गुरु चरन सरोज रज, निज मन मुकुर सुधार है _____ ।

- (1) छन्द
- (2) चौपाई
- (3) सोरठा
- (4) सवैया

Options :

212807128313. 1
212807128314. 2
212807128315. 3
212807128316. 4

Question Number : 30 Question Id : 21280732080 Question Type : MCQ Option Shuffling : No Is Question Mandatory : No Calculator : None
Response Time : N.A Think Time : N.A Minimum Instruction Time : 0

Correct Marks : 5 Wrong Marks : 1

Question Key Details :

Key	Value
Comprehension	MCQ

सूची - I के साथ सूची - II का मिलान कीजिए।

सूची - I

सूची - II

- | | |
|---------------|---------------------|
| (A) रसोई घर | (I) द्वंद्व समास |
| (B) चक्रधर | (II) द्विगु समास |
| (C) पाप-पुण्य | (III) तत्पुरुष समास |
| (D) नवग्रह | (IV) बहुव्रीहि समास |

नीचे दिए गए विकल्पों में से सही उत्तर का चयन कीजिए।

- (1) (A)-(IV), (B)-(II), (C)-(I), (D)-(III)
- (2) (A)-(III), (B)-(I), (C)-(II), (D)-(IV)
- (3) (A)-(II), (B)-(III), (C)-(IV), (D)-(I)
- (4) (A)-(III), (B)-(IV), (C)-(I), (D)-(II)

Options :

212807128317. 1
212807128318. 2
212807128319. 3
212807128320. 4

Question Number : 31 Question Id : 21280732081 Question Type : MCQ Option Shuffling : No Is Question Mandatory : No Calculator : None
Response Time : N.A Think Time : N.A Minimum Instruction Time : 0

Correct Marks : 5 Wrong Marks : 1

Question Key Details :

Key	Value
Comprehension	MCQ

नील गाय में कौन सा समास है ?

- (1) अव्ययीभाव
- (2) द्वन्द्व
- (3) कर्मधारय
- (4) द्विगु

Options :

212807128321. 1
212807128322. 2
212807128323. 3
212807128324. 4

Question Number : 32 Question Id : 21280732082 Question Type : MCQ Option Shuffling : No Is Question Mandatory : No Calculator : None
Response Time : N.A Think Time : N.A Minimum Instruction Time : 0

Correct Marks : 5 Wrong Marks : 1

Question Key Details :

Key	Value
Comprehension	MCQ

फूले कास सकल महि छाई
जनु बर सा रितु प्रकट बुढ़ाई।
अलंकार बताइए :

- (1) उत्प्रेक्षा
- (2) यमक
- (3) अतिशयोक्ति
- (4) रूपक

Options :

212807128325. 1
212807128326. 2
212807128327. 3
212807128328. 4

Question Number : 33 Question Id : 21280732083 Question Type : MCQ Option Shuffling : No Is Question Mandatory : No Calculator : None
Response Time : N.A Think Time : N.A Minimum Instruction Time : 0
Correct Marks : 5 Wrong Marks : 1

Question Key Details :

Key	Value
Comprehension	MCQ

या अनुरागी चित्त की गति समझौ नहिं कोय।
ज्यों-ज्यों बढ़ै स्याम रंग, त्यों त्यों उज्ज्वल होय ॥
अलंकार बताइए :

- (1) विरोधामास अलंकार
- (2) अर्थालंकार
- (3) रूपक अलंकार
- (4) यमक अलंकार

Options :

212807128329. 1
212807128330. 2
212807128331. 3
212807128332. 4

Question Number : 34 Question Id : 21280732084 Question Type : MCQ Option Shuffling : No Is Question Mandatory : No Calculator : None
Response Time : N.A Think Time : N.A Minimum Instruction Time : 0
Correct Marks : 5 Wrong Marks : 1

Question Key Details :

Key	Value
Comprehension	MCQ

वैराग्य होने पर किस रस की उत्पत्ति होती है ?

- (A) करुण रस
- (B) वीर रस
- (C) शान्त रस
- (D) अद्भुत रस
- (E) वीभत्स रस

नीचे दिए गए विकल्पों में से सही उत्तर का चयन कीजिए।

- (1) केवल (A) व (B)
- (2) केवल (C)
- (3) केवल (E)
- (4) केवल (B) व (D)

Options :

- 212807128333. 1
- 212807128334. 2
- 212807128335. 3
- 212807128336. 4

Question Number : 35 Question Id : 21280732085 Question Type : MCQ Option Shuffling : No Is Question Mandatory : No Calculator : None Response Time : N.A Think Time : N.A Minimum Instruction Time : 0

Correct Marks : 5 Wrong Marks : 1

Question Key Details :

Key	Value
Comprehension	MCQ

‘अल्प’ शब्द का विलोम शब्द कौन सा है ?

- (1) लभ्य
- (2) अनध
- (3) अधिक
- (4) अनातप

Options :

- 212807128337. 1
- 212807128338. 2
- 212807128339. 3
- 212807128340. 4

Question Number : 36 Question Id : 21280732086 Question Type : MCQ Option Shuffling : No Is Question Mandatory : No Calculator : None Response Time : N.A Think Time : N.A Minimum Instruction Time : 0

Correct Marks : 5 Wrong Marks : 1

Question Key Details :

Key	Value
Comprehension	MCQ

सूची - I के साथ सूची - II का मिलान कीजिए।

सूची - I

सूची - II

- | | |
|-------------|---------------|
| (A) अनुमोदन | (I) मुक्ति |
| (B) कुत्सा | (II) मुक्त |
| (C) ग्रस्त | (III) प्रशंसा |
| (D) बंधन | (IV) विरीध |

नीचे दिए गए विकल्पों में से सही उत्तर का चयन कीजिए।

- (1) (A)-(I), (B)-(II), (C)-(III), (D)-(IV)
- (2) (A)-(IV), (B)-(III), (C)-(II), (D)-(I)
- (3) (A)-(II), (B)-(III), (C)-(I), (D)-(IV)
- (4) (A)-(III), (B)-(IV), (C)-(III), (D)-(I)

Options :

212807128341. 1
212807128342. 2
212807128343. 3
212807128344. 4

Question Number : 37 Question Id : 21280732087 Question Type : MCQ Option Shuffling : No Is Question Mandatory : No Calculator : None
Response Time : N.A Think Time : N.A Minimum Instruction Time : 0

Correct Marks : 5 Wrong Marks : 1

Question Key Details :

Key	Value
Comprehension	MCQ

धनिया भाजी, तरकारी को सुगंधित करते हैं रेखांकित शब्द का लिंग बताइए :

- (A) स्त्रीलिंग
- (B) उभयलिंग
- (C) पुल्लिंग
- (D) नपुंसक लिंग
- (E) संज्ञा लिंग

नीचे दिए गए विकल्पों में से सही उत्तर का चयन कीजिए।

- (1) केवल (A), (B)
- (2) केवल (C)
- (3) केवल (D), (E)
- (4) केवल (B)

Options :

212807128345. 1
212807128346. 2
212807128347. 3
212807128348. 4

Question Number : 38 Question Id : 21280732088 Question Type : MCQ Option Shuffling : No Is Question Mandatory : No Calculator : None
Response Time : N.A Think Time : N.A Minimum Instruction Time : 0

Correct Marks : 5 Wrong Marks : 1

Question Key Details :

Key	Value
Comprehension	MCQ

वाक्य में से वचन को दर्शाने वाला शब्द बताइए।

गोली लगते ही उस आदमखोर बाघ के प्राण उड़ गए।

- (A) लगते ही
 (B) आदमखोर
 (C) बाघ
 (D) उड़ गए
 (E) प्राण

नीचे दिए गए विकल्पों में से सही उत्तर का चयन कीजिए।

- (1) केवल (A), (B)
 (2) केवल (C)
 (3) केवल (C), (D)
 (4) केवल (E)

Options :

212807128349. 1
 212807128350. 2
 212807128351. 3
 212807128352. 4

Question Number : 39 Question Id : 21280732089 Question Type : MCQ Option Shuffling : No Is Question Mandatory : No Calculator : None
 Response Time : N.A Think Time : N.A Minimum Instruction Time : 0

Correct Marks : 5 Wrong Marks : 1

Question Key Details :

Key	Value
Comprehension	MCQ

सूची - I के साथ सूची - II का मिलान कीजिए। सही पर्यायवाची के साथ मिलान करें :

सूची - I

सूची - II

- | | |
|------------|-------------|
| (A) धरा | (I) भुजंग |
| (B) अहि | (II) मिथ्या |
| (C) निर्मल | (III) अचला |
| (D) झूठ | (IV) शुचि |

नीचे दिए गए विकल्पों में से सही उत्तर का चयन कीजिए।

- (1) (A)-(III), (B)-(IV), (C)-(II), (D)-(I)
 (2) (A)-(III), (B)-(I), (C)-(IV), (D)-(II)
 (3) (A)-(IV), (B)-(I), (C)-(III), (D)-(II)
 (4) (A)-(I), (B)-(IV), (C)-(II), (D)-(III)

Options :

212807128353. 1
 212807128354. 2
 212807128355. 3
 212807128356. 4

Question Number : 40 Question Id : 21280732090 Question Type : MCQ Option Shuffling : No Is Question Mandatory : No Calculator : None
Response Time : N.A Think Time : N.A Minimum Instruction Time : 0

Correct Marks : 5 Wrong Marks : 1

Question Key Details :

Key	Value
Comprehension	MCQ

‘मछली’ शब्द का पर्यायवाची शब्द क्या होगा :

- (1) जलज
- (2) पंकज
- (3) जलचर
- (4) मेष

Options :

212807128357. 1
212807128358. 2
212807128359. 3
212807128360. 4

Question Number : 41 Question Id : 21280732091 Question Type : MCQ Option Shuffling : No Is Question Mandatory : No Calculator : None
Response Time : N.A Think Time : N.A Minimum Instruction Time : 0

Correct Marks : 5 Wrong Marks : 1

Question Key Details :

Key	Value
Comprehension	MCQ

‘अन्योन्यश्रित’ वाक्यांश के लिए एक शब्द क्या होगा :

- (1) किसी पर आश्रित होना
- (2) एक दूसरे पर आश्रित होना
- (3) किसी को आश्रित बना देना
- (4) अनन्य को आश्रित बना देना

Options :

212807128361. 1
212807128362. 2
212807128363. 3
212807128364. 4

Question Number : 42 Question Id : 21280732092 Question Type : MCQ Option Shuffling : No Is Question Mandatory : No Calculator : None
Response Time : N.A Think Time : N.A Minimum Instruction Time : 0

Correct Marks : 5 Wrong Marks : 1

Question Key Details :

Key	Value
Comprehension	MCQ

जिसके होश ठिकाने न हो - वाक्यांश के लिए सटीक शब्द का चयन कीजिए :

- (A) बेहोश
- (B) बदहोश
- (C) मदहोश
- (D) होश
- (E) पूरे होश में

नीचे दिए गए विकल्पों में से सही उत्तर का चयन कीजिए।

- (1) केवल (A), (B)
- (2) केवल (B)
- (3) केवल (C)
- (4) केवल (D), (E)

Options :

- 212807128365. 1
- 212807128366. 2
- 212807128367. 3
- 212807128368. 4

Question Number : 43 Question Id : 21280732093 Question Type : MCQ Option Shuffling : No Is Question Mandatory : No Calculator : None Response Time : N.A Think Time : N.A Minimum Instruction Time : 0

Correct Marks : 5 Wrong Marks : 1

Question Key Details :

Key	Value
Comprehension	MCQ

‘जिज्ञासु’ का अर्थ है -

- (1) जानने की इच्छा रखने वाला
- (2) जीने की इच्छा रखने वाला
- (3) जाने की इच्छा रखने वाला
- (4) कुछ भी इच्छा न रखने वाला

Options :

- 212807128369. 1
- 212807128370. 2
- 212807128371. 3
- 212807128372. 4

Question Number : 44 Question Id : 21280732094 Question Type : MCQ Option Shuffling : No Is Question Mandatory : No Calculator : None Response Time : N.A Think Time : N.A Minimum Instruction Time : 0

Correct Marks : 5 Wrong Marks : 1

Question Key Details :

Key	Value
Comprehension	MCQ

वर्ण का अर्थ है –

- (A) रंग
- (B) अक्षर
- (C) वर्ग
- (D) ब्राह्मण-क्षत्रिय आदि वर्ण
- (E) समूह

नीचे दिए गए विकल्पों में से सही उत्तर का चयन कीजिए।

- (1) केवल (A)
- (2) केवल (D), (E), (B)
- (3) केवल (A), (B), (D)
- (4) केवल (E)

Options :

- 212807128373. 1
- 212807128374. 2
- 212807128375. 3
- 212807128376. 4

Question Number : 45 Question Id : 21280732095 Question Type : MCQ Option Shuffling : No Is Question Mandatory : No Calculator : None Response Time : N.A Think Time : N.A Minimum Instruction Time : 0

Correct Marks : 5 Wrong Marks : 1

Question Key Details :

Key	Value
Comprehension	MCQ

इनमें से किन शब्दों की वर्तनी अशुद्ध है?

- (A) आशीर्वाद
- (B) उज्वल
- (C) युधिष्ठिर
- (D) सन्यासी
- (E) प्रतीज्ञा

नीचे दिए गए विकल्पों में से सही उत्तर का चयन कीजिए।

- (1) केवल (A), (C)
- (2) केवल (C), (E)
- (3) केवल (B), (D)
- (4) केवल (B), (E)

Options :

- 212807128377. 1
- 212807128378. 2
- 212807128379. 3
- 212807128380. 4

Question Number : 46 Question Id : 21280732096 Question Type : MCQ Option Shuffling : No Is Question Mandatory : No Calculator : None Response Time : N.A Think Time : N.A Minimum Instruction Time : 0

Correct Marks : 5 Wrong Marks : 1

Question Key Details :

Key	Value
Comprehension	MCQ

निम्नलिखित शब्दों में से तद्वत् शब्द का चयन कीजिए :

- (1) दुर्लभ
- (2) वानर
- (3) निष्ठुर
- (4) दूल्हा

Options :

212807128381. 1
212807128382. 2
212807128383. 3
212807128384. 4

Question Number : 47 Question Id : 21280732097 Question Type : MCQ Option Shuffling : No Is Question Mandatory : No Calculator : None
Response Time : N.A Think Time : N.A Minimum Instruction Time : 0

Correct Marks : 5 Wrong Marks : 1

Question Key Details :

Key	Value
Comprehension	MCQ

निम्नलिखित वाक्यों में से 'देशज' शब्द का वाक्य पहचानिए :

- (1) सड़क किनारे आम का बाग है।
- (2) चिड़िया पंखे पर बैठ गई।
- (3) आज हल्दी की रस्म है।
- (4) बच्चा माँ की गोद में है।

Options :

212807128385. 1
212807128386. 2
212807128387. 3
212807128388. 4

Question Number : 48 Question Id : 21280732098 Question Type : MCQ Option Shuffling : No Is Question Mandatory : No Calculator : None
Response Time : N.A Think Time : N.A Minimum Instruction Time : 0

Correct Marks : 5 Wrong Marks : 1

Question Key Details :

Key	Value
Comprehension	MCQ

सूची - I के साथ सूची - II का मिलान कीजिए।

सूची - I

सूची - II

- | | |
|----------------------|----------------|
| (A) जयशंकर प्रसाद | (I) लमही |
| (B) सुमित्रानंदन पंत | (II) इलाहाबाद |
| (C) प्रेमचंद | (III) अल्मोड़ा |
| (D) महादेवी वर्मा | (IV) बनारस |

नीचे दिए गए विकल्पों में से सही उत्तर का चयन कीजिए।

- (1) (A)-(III), (B)-(IV), (C)-(I), (D)-(II)
- (2) (A)-(I), (B)-(IV), (C)-(III), (D)-(II)
- (3) (A)-(IV), (B)-(III), (C)-(I), (D)-(II)
- (4) (A)-(IV), (B)-(III), (C)-(II), (D)-(I)

Options :

212807128389. 1
212807128390. 2
212807128391. 3
212807128392. 4

Question Number : 49 Question Id : 21280732099 Question Type : MCQ Option Shuffling : No Is Question Mandatory : No Calculator : None
Response Time : N.A Think Time : N.A Minimum Instruction Time : 0

Correct Marks : 5 Wrong Marks : 1

Question Key Details :

Key	Value
Comprehension	MCQ

प्रयोगवाद के प्रवर्तक कौन-से कवि कहे जाते हैं।

- (A) धर्मवीर भारती
- (B) अज्ञेय
- (C) रघुवीर सहाय
- (D) केसरी कुमार
- (E) भारत भूषण अग्रवाल

नीचे दिए गए विकल्पों में से सही उत्तर का चयन कीजिए।

- (1) केवल (A)
- (2) केवल (B), (C), (D), (E)
- (3) केवल (B)
- (4) (A), (B), (C), (D), (E)

Options :

212807128393. 1
212807128394. 2
212807128395. 3
212807128396. 4

Question Number : 50 Question Id : 21280732100 Question Type : MCQ Option Shuffling : No Is Question Mandatory : No Calculator : None
Response Time : N.A Think Time : N.A Minimum Instruction Time : 0

Correct Marks : 5 Wrong Marks : 1

Question Key Details :

Key	Value
-----	-------

सूची - I के साथ सूची - II का मिलान कीजिए।

सूची - I

सूची - II

- | | |
|----------------------------------|---------------------|
| (A) सगे-सम्बन्धियों के लिए पत्र | (I) शिकायती पत्र |
| (B) नौकरी के लिए | (II) प्रार्थना पत्र |
| (C) छुट्टी के लिए | (III) आवेदन पत्र |
| (D) मिलावटी दुध की बिक्री के लिए | (IV) सामाजिक पत्र |

नीचे दिए गए विकल्पों में से सही उत्तर का चयन कीजिए।

- (1) (A)-(III), (B)-(II), (C)-(IV), (D)-(I)
- (2) (A)-(II), (B)-(III), (C)-(I), (D)-(IV)
- (3) (A)-(IV), (B)-(III), (C)-(II), (D)-(I)
- (4) (A)-(I), (B)-(II), (C)-(III), (D)-(IV)

Options :

212807128397. 1
212807128398. 2
212807128399. 3
212807128400. 4

Bengali

Group Number :	2
Group Id :	212807726
Group Maximum Duration :	45
Group Minimum Duration :	45
Show Attended Group? :	No
Edit Attended Group? :	No
Break time :	0
Group Marks :	200
Is this Group for Examiner? :	No
Examiner permission :	Cant View
Show Progress Bar? :	No

Bengali

Section Id :	212807856
Section Number :	1
Section type :	Online
Mandatory or Optional :	Mandatory
Number of Questions :	50
Number of Questions to be attempted :	40
Section Marks :	200
Enable Mark as Answered Mark for Review and Clear Response :	Yes
Maximum Instruction Time :	0
Sub-Section Number :	1
Sub-Section Id :	2128072460
Question Shuffling Allowed :	No
Is Section Default? :	null
Sub-Section Number :	2
Sub-Section Id :	2128072461
Question Shuffling Allowed :	No
Is Section Default? :	null
Sub-Section Number :	3
Sub-Section Id :	2128072462

Question Shuffling Allowed :	No
Is Section Default? :	null
Sub-Section Number :	4
Sub-Section Id :	2128072463
Question Shuffling Allowed :	Yes
Is Section Default? :	null

Odia

Group Number :	3
Group Id :	212807727
Group Maximum Duration :	45
Group Minimum Duration :	45
Show Attended Group? :	No
Edit Attended Group? :	No
Break time :	0
Group Marks :	200
Is this Group for Examiner? :	No
Examiner permission :	Cant View
Show Progress Bar? :	No

Odia

Section Id :	212807857
Section Number :	1
Section type :	Online
Mandatory or Optional :	Mandatory
Number of Questions :	50
Number of Questions to be attempted :	40
Section Marks :	200
Enable Mark as Answered Mark for Review and Clear Response :	Yes
Maximum Instruction Time :	0
Sub-Section Number :	1
Sub-Section Id :	2128072464
Question Shuffling Allowed :	No
Is Section Default? :	null
Sub-Section Number :	2
Sub-Section Id :	2128072465
Question Shuffling Allowed :	No
Is Section Default? :	null
Sub-Section Number :	3
Sub-Section Id :	2128072466
Question Shuffling Allowed :	No
Is Section Default? :	null
Sub-Section Number :	4
Sub-Section Id :	2128072467
Question Shuffling Allowed :	Yes
Is Section Default? :	null

Telugu

Group Number :	4
Group Id :	212807728
Group Maximum Duration :	45
Group Minimum Duration :	45
Show Attended Group? :	No
Edit Attended Group? :	No
Break time :	0
Group Marks :	200
Is this Group for Examiner? :	No
Examiner permission :	Cant View
Show Progress Bar? :	No

Telugu

Section Id :	212807858
Section Number :	1
Section type :	Online
Mandatory or Optional :	Mandatory
Number of Questions :	50
Number of Questions to be attempted :	40
Section Marks :	200
Enable Mark as Answered Mark for Review and Clear Response :	Yes
Maximum Instruction Time :	0
Sub-Section Number :	1
Sub-Section Id :	2128072468
Question Shuffling Allowed :	No
Is Section Default? :	null
Sub-Section Number :	2
Sub-Section Id :	2128072469
Question Shuffling Allowed :	No
Is Section Default? :	null
Sub-Section Number :	3
Sub-Section Id :	2128072470
Question Shuffling Allowed :	No
Is Section Default? :	null
Sub-Section Number :	4
Sub-Section Id :	2128072471
Question Shuffling Allowed :	Yes
Is Section Default? :	null

Arabic

Group Number :	5
Group Id :	212807729
Group Maximum Duration :	45
Group Minimum Duration :	45
Show Attended Group? :	No
Edit Attended Group? :	No
Break time :	0
Group Marks :	200
Is this Group for Examiner? :	No
Examiner permission :	Cant View
Show Progress Bar? :	No

Arabic

Section Id :	212807859
Section Number :	1
Section type :	Online
Mandatory or Optional :	Mandatory
Number of Questions :	50
Number of Questions to be attempted :	40
Section Marks :	200
Enable Mark as Answered Mark for Review and Clear Response :	Yes
Maximum Instruction Time :	0
Sub-Section Number :	1
Sub-Section Id :	2128072472
Question Shuffling Allowed :	No
Is Section Default? :	null
Sub-Section Number :	2
Sub-Section Id :	2128072473
Question Shuffling Allowed :	No
Is Section Default? :	null

Sub-Section Number :	3
Sub-Section Id :	2128072474
Question Shuffling Allowed :	No
Is Section Default? :	null
Sub-Section Number :	4
Sub-Section Id :	2128072475
Question Shuffling Allowed :	Yes
Is Section Default? :	null

Kashmiri

Group Number :	6
Group Id :	212807730
Group Maximum Duration :	45
Group Minimum Duration :	45
Show Attended Group? :	No
Edit Attended Group? :	No
Break time :	0
Group Marks :	200
Is this Group for Examiner? :	No
Examiner permission :	Cant View
Show Progress Bar? :	No

Kashmiri

Section Id :	212807860
Section Number :	1
Section type :	Online
Mandatory or Optional :	Mandatory
Number of Questions :	50
Number of Questions to be attempted :	40
Section Marks :	200
Enable Mark as Answered Mark for Review and Clear Response :	Yes
Maximum Instruction Time :	0
Sub-Section Number :	1
Sub-Section Id :	2128072476
Question Shuffling Allowed :	No
Is Section Default? :	null
Sub-Section Number :	2
Sub-Section Id :	2128072477
Question Shuffling Allowed :	No
Is Section Default? :	null
Sub-Section Number :	3
Sub-Section Id :	2128072478
Question Shuffling Allowed :	No
Is Section Default? :	null
Sub-Section Number :	4
Sub-Section Id :	2128072479
Question Shuffling Allowed :	Yes
Is Section Default? :	null

Sanskrit Lang

Group Number :	7
Group Id :	212807731
Group Maximum Duration :	45
Group Minimum Duration :	45
Show Attended Group? :	No
Edit Attended Group? :	No
Break time :	0
Group Marks :	200
Is this Group for Examiner? :	No

Examiner permission : Cant View
Show Progress Bar? : No

Sanskrit Lang

Section Id : 212807861
Section Number : 1
Section type : Online
Mandatory or Optional : Mandatory
Number of Questions : 50
Number of Questions to be attempted : 40
Section Marks : 200
Enable Mark as Answered Mark for Review and Clear Response : Yes
Maximum Instruction Time : 0
Sub-Section Number : 1
Sub-Section Id : 2128072480
Question Shuffling Allowed : No
Is Section Default? : null
Sub-Section Number : 2
Sub-Section Id : 2128072481
Question Shuffling Allowed : No
Is Section Default? : null
Sub-Section Number : 3
Sub-Section Id : 2128072482
Question Shuffling Allowed : No
Is Section Default? : null
Sub-Section Number : 4
Sub-Section Id : 2128072483
Question Shuffling Allowed : Yes
Is Section Default? : null

Agriculture

Group Number : 8
Group Id : 212807732
Group Maximum Duration : 45
Group Minimum Duration : 45
Show Attended Group? : No
Edit Attended Group? : No
Break time : 0
Group Marks : 200
Is this Group for Examiner? : No
Examiner permission : Cant View
Show Progress Bar? : No

Agriculture

Section Id : 212807862
Section Number : 1
Section type : Online
Mandatory or Optional : Mandatory
Number of Questions : 50
Number of Questions to be attempted : 40
Section Marks : 200
Enable Mark as Answered Mark for Review and Clear Response : Yes
Maximum Instruction Time : 0
Sub-Section Number : 1
Sub-Section Id : 2128072484
Question Shuffling Allowed : Yes
Is Section Default? : null

Question Number : 51 Question Id : 21280731766 Question Type : MCQ Option Shuffling : No Is Question Mandatory : No Calculator : None
Response Time : N.A Think Time : N.A Minimum Instruction Time : 0

Correct Marks : 5 Wrong Marks : 1

Question Key Details :

Key	Value
Comprehension	MCQ

Which of the following is the most dominant gas in the earth's atmosphere?

1. CO₂
2. N₂
3. O₂
4. CH₄

Options :

- 212807127061. 1
- 212807127062. 2
- 212807127063. 3
- 212807127064. 4

Question Number : 51 Question Id : 21280731766 Question Type : MCQ Option Shuffling : No Is Question Mandatory : No Calculator : None
Response Time : N.A Think Time : N.A Minimum Instruction Time : 0

Correct Marks : 5 Wrong Marks : 1

Question Key Details :

Key	Value
Comprehension	MCQ

निम्नलिखित में से कौन सी गैस पृथ्वी के वायुमंडल में सबसे अधिक मात्र में पायी जाती है?

1. CO₂
2. N₂
3. O₂
4. CH₄

Options :

- 212807127061. 1
- 212807127062. 2
- 212807127063. 3
- 212807127064. 4

Question Number : 52 Question Id : 21280731767 Question Type : MCQ Option Shuffling : No Is Question Mandatory : No Calculator : None
Response Time : N.A Think Time : N.A Minimum Instruction Time : 0

Correct Marks : 5 Wrong Marks : 1

Question Key Details :

Key	Value
Comprehension	MCQ

Match List 1 with List II

LIST I Weather element		LIST II Instrument	
A.	Temperature	I.	Dew gauge
B.	Rainfall	II.	Rain gauge
C.	Wind velocity	III.	Thermometer
D.	Dew	IV.	Anemometer

Choose the correct answer from the options given below:

1. A-1, B-II, C-III, D-IV
2. A-IV, B-III, C-II, D-I
3. A-III, B-IV, C-I, D-II
4. A-III, B-II, C-IV, D-I

Options :

212807127065. 1
212807127066. 2
212807127067. 3
212807127068. 4

Question Number : 52 Question Id : 21280731767 Question Type : MCQ Option Shuffling : No Is Question Mandatory : No Calculator : None
Response Time : N.A Think Time : N.A Minimum Instruction Time : 0

Correct Marks : 5 Wrong Marks : 1

Question Key Details :

Key	Value
Comprehension	MCQ

सूची I का सूची II से मिलान कीजिए

सूची I मौसम तत्व		सूची II उपकरण	
A.	तापमान	I.	ओस मापी
B.	वर्षा वृष्टि	II.	वर्षामापी
C.	वायु का वेग	III.	थर्मोमीटर
D.	ओस	IV.	एनिमोमीटर

निम्नलिखित विकल्पों में से सही उत्तर का चयन कीजिए :

1. A-1, B-II, C-III, D-IV
2. A-IV, B-III, C-II, D-I
3. A-III, B-IV, C-I, D-II
4. A-III, B-II, C-IV, D-I

Options :

212807127065. 1
212807127066. 2
212807127067. 3
212807127068. 4

Question Number : 53 Question Id : 21280731768 Question Type : MCQ Option Shuffling : No Is Question Mandatory : No Calculator : None
Response Time : N.A Think Time : N.A Minimum Instruction Time : 0

Correct Marks : 5 Wrong Marks : 1

Question Key Details :

Key	Value
Comprehension	MCQ

Match List 1 with List II

LIST I		LIST II	
A.	Histosols	I.	Low fertile sandy soils
B.	Mollisols	II.	Highly weathered soils
C.	Oxisols	III.	Wetland organic soils
D.	Spodosols	IV.	Grassland soils

Choose the correct answer from the options given below:

1. A-III, B-IV, C-II, D-I
2. A-II, B-I, C-IV, D-III
3. A-IV, B-II, C-I, D-III
4. A-I, B-III, C-IV, D-II

Options :

212807127069. 1
212807127070. 2
212807127071. 3
212807127072. 4

Question Number : 53 Question Id : 21280731768 Question Type : MCQ Option Shuffling : No Is Question Mandatory : No Calculator : None Response Time : N.A Think Time : N.A Minimum Instruction Time : 0

Correct Marks : 5 Wrong Marks : 1

Question Key Details :

Key	Value
Comprehension	MCQ

सूची I का सूची II से मिलान कीजिए

सूची I		सूची II	
A.	द्विसंकर संकर	I.	Tt x tt
B.	एकसंकर संकर	II.	Tt x TT
C.	प्रतीप संकर	III.	9 : 3 : 3 : 1
D.	परिक्षार्थ संकर	IV.	3 : 1

निम्नलिखित विकल्पों में से सही उत्तर का चयन कीजिए :

1. A-I, B-IV, C-III, D-II
2. A-II, B-I, C-IV, D-III
3. A-IV, B-II, C-III, D-I
4. A-III, B-IV, C-II, D-I

Options :

212807127069. 1
212807127070. 2
212807127071. 3
212807127072. 4

Question Number : 54 Question Id : 21280731769 Question Type : MCQ Option Shuffling : No Is Question Mandatory : No Calculator : None Response Time : N.A Think Time : N.A Minimum Instruction Time : 0

Correct Marks : 5 Wrong Marks : 1

Question Key Details :

Key	Value
Comprehension	MCQ

Choose **Incorrect** statement(s) related to Roguing.

- A. All out crosses should be removed as soon as they appear.
- B. The diseased heads should be removed.
- C. Roguing should be done every day.
- D. Off type plant, volunteer plants should not be removed from seed production plot.

Choose the correct answer from the options given below:

- 1. A and D only
- 2. B only
- 3. A and B only
- 4. D only

Options :

- 212807127073. 1
- 212807127074. 2
- 212807127075. 3
- 212807127076. 4

Question Number : 54 Question Id : 21280731769 Question Type : MCQ Option Shuffling : No Is Question Mandatory : No Calculator : None Response Time : N.A Think Time : N.A Minimum Instruction Time : 0

Correct Marks : 5 Wrong Marks : 1

Question Key Details :

Key	Value
Comprehension	MCQ

अपवांछन से संबंधित गलत विकल्प छाँटिए।

- A. सभी बाह्य संकर का निराकरण करना चाहिए जैसे ही वे प्रकट होते हैं।
- B. रोगी शीर्षों का निराकरण करना चाहिए।
- C. अपवांछन प्रतिदिन करना चाहिए।
- D. आफ प्रकार के पौधे और अपने आप उगने वाले पौधों को बीज उत्पादन क्षेत्रक से नहीं हटाना चाहिए।

नीचे दिए गए विकल्पों में से सही उत्तर चुनें:

- 1. केवल A
- 2. केवल B
- 3. केवल A, B, C एवं E
- 4. केवल D

Options :

- 212807127073. 1
- 212807127074. 2
- 212807127075. 3
- 212807127076. 4

Question Number : 55 Question Id : 21280731770 Question Type : MCQ Option Shuffling : No Is Question Mandatory : No Calculator : None Response Time : N.A Think Time : N.A Minimum Instruction Time : 0

Correct Marks : 5 Wrong Marks : 1

Question Key Details :

Key	Value
Comprehension	MCQ

Who developed the concept of *in vitro* culture in 1902?

1. Watson
2. Crick
3. Haberlandt
4. Hans Jenny

Options :

212807127077. 1
212807127078. 2
212807127079. 3
212807127080. 4

Question Number : 55 Question Id : 21280731770 Question Type : MCQ Option Shuffling : No Is Question Mandatory : No Calculator : None Response Time : N.A Think Time : N.A Minimum Instruction Time : 0

Correct Marks : 5 Wrong Marks : 1

Question Key Details :

Key	Value
Comprehension	MCQ

निम्नलिखित में से किसने पात्रे संवर्धन की धारणा को 1902 में विकसित किया?

1. वाट्सन
2. क्रिक
3. हेबरलेन्ड
4. हेन्स जेनी

Options :

212807127077. 1
212807127078. 2
212807127079. 3
212807127080. 4

Question Number : 56 Question Id : 21280731771 Question Type : MCQ Option Shuffling : No Is Question Mandatory : No Calculator : None Response Time : N.A Think Time : N.A Minimum Instruction Time : 0

Correct Marks : 5 Wrong Marks : 1

Question Key Details :

Key	Value
Comprehension	MCQ

Match List I with List II

LIST I		LIST II	
A.	ABO blood group	I.	Dihybrid cross
B.	Law of segregation	II.	Monohybrid cross
C.	Gene mutation	III.	Base pairs substitution
D.	Law of independent assortment	IV.	Multiple allelism

Choose the correct answer from the options given below:

1. A-IV, B-II, C-III, D-I
2. A-II, B-I, C-IV, D-III
3. A-IV, B-I, C-II, D-III
4. A-II, B-III, C-I, D-IV

Options :

212807127081. 1
212807127082. 2
212807127083. 3
212807127084. 4

Question Number : 56 Question Id : 21280731771 Question Type : MCQ Option Shuffling : No Is Question Mandatory : No Calculator : None Response Time : N.A Think Time : N.A Minimum Instruction Time : 0

Correct Marks : 5 Wrong Marks : 1

Question Key Details :

Key	Value
Comprehension	MCQ

सूची I का सूची II से मिलान कीजिए

सूची I		सूची II	
A.	ABO रक्त समूह	I.	द्विसंकर संकर
B.	पृथक्करण का नियम	II.	एकसंकर संकर
C.	जीन उत्परिवर्तन	III.	क्षारीय युग्म प्रतिस्थापन
D.	स्वतंत्र अपव्यूहन का नियम	IV.	बहु विकल्पिता

निम्नलिखित विकल्पों में से सही उत्तर का चयन कीजिए :

1. A-IV, B-II, C-III, D-I
2. A-II, B-I, C-IV, D-III
3. A-IV, B-I, C-II, D-III
4. A-II, B-III, C-I, D-IV

Options :

212807127081. 1
212807127082. 2
212807127083. 3
212807127084. 4

Question Number : 57 Question Id : 21280731772 Question Type : MCQ Option Shuffling : No Is Question Mandatory : No Calculator : None Response Time : N.A Think Time : N.A Minimum Instruction Time : 0

Correct Marks : 5 Wrong Marks : 1

Question Key Details :

Key	Value
Comprehension	MCQ

Purines in DNA molecules are:

1. Adenine and guanine
2. Cytocine and uracil
3. Uracil and guanine
4. Uracil and adenine

Options :

212807127085. 1
212807127086. 2
212807127087. 3
212807127088. 4

Question Number : 57 Question Id : 21280731772 Question Type : MCQ Option Shuffling : No Is Question Mandatory : No Calculator : None Response Time : N.A Think Time : N.A Minimum Instruction Time : 0

Correct Marks : 5 Wrong Marks : 1

Question Key Details :

Key	Value
Comprehension	MCQ

डी.एन.ए. अणुओं में प्यूरीन हैं:

1. एडिनिन और ग्वानिन
2. साइटोसिन और युरासिल
3. युरासिल और ग्वानिन
4. युरासिल और एडिनिन

Options :

212807127085. 1
212807127086. 2
212807127087. 3
212807127088. 4

Question Number : 58 Question Id : 21280731773 Question Type : MCQ Option Shuffling : No Is Question Mandatory : No Calculator : None Response Time : N.A Think Time : N.A Minimum Instruction Time : 0

Correct Marks : 5 Wrong Marks : 1

Question Key Details :

Key	Value
Comprehension	MCQ

'Kwashiorkor' is caused by the deficiency of :

1. Lipids
2. Proteins
3. Carbohydrates
4. Saponins

Options :

212807127089. 1
212807127090. 2
212807127091. 3
212807127092. 4

Question Number : 58 Question Id : 21280731773 Question Type : MCQ Option Shuffling : No Is Question Mandatory : No Calculator : None Response Time : N.A Think Time : N.A Minimum Instruction Time : 0

Correct Marks : 5 Wrong Marks : 1

Question Key Details :

Key	Value
Comprehension	MCQ

काशियोरकॉर रोग _____ की कमी से होता है।

1. वसा
2. प्रोटीन
3. कार्बोहाइड्रेट
4. अमीनो अम्ल

Options :

212807127089. 1
212807127090. 2
212807127091. 3

Question Number : 59 Question Id : 21280731774 Question Type : MCQ Option Shuffling : No Is Question Mandatory : No Calculator : None
Response Time : N.A Think Time : N.A Minimum Instruction Time : 0

Correct Marks : 5 Wrong Marks : 1

Question Key Details :

Key	Value
Comprehension	MCQ

Antibiotics are **not** effective on which of the following?

1. Virus
2. Bacteria
3. Fungi
4. Protozoan

Options :

212807127093. 1
212807127094. 2
212807127095. 3
212807127096. 4

Question Number : 59 Question Id : 21280731774 Question Type : MCQ Option Shuffling : No Is Question Mandatory : No Calculator : None
Response Time : N.A Think Time : N.A Minimum Instruction Time : 0

Correct Marks : 5 Wrong Marks : 1

Question Key Details :

Key	Value
Comprehension	MCQ

प्रतिजैविक निम्नलिखित में से किस पर प्रभावकारी **नहीं** होते?

1. विषाणु
2. जीवाणु
3. कवक
4. प्रोटोज़ोआ

Options :

212807127093. 1
212807127094. 2
212807127095. 3
212807127096. 4

Question Number : 60 Question Id : 21280731775 Question Type : MCQ Option Shuffling : No Is Question Mandatory : No Calculator : None
Response Time : N.A Think Time : N.A Minimum Instruction Time : 0

Correct Marks : 5 Wrong Marks : 1

Question Key Details :

Key	Value
Comprehension	MCQ

Which of the pair is of biofertilizers?

1. Azolla and blue green algae
2. *Fusarium* and Erysiphe
3. *Triticum* and grasses
4. *Salmonella* and *E coli*

Options :

212807127097. 1
212807127098. 2
212807127099. 3
212807127100. 4

Question Number : 60 Question Id : 21280731775 Question Type : MCQ Option Shuffling : No Is Question Mandatory : No Calculator : None
Response Time : N.A Think Time : N.A Minimum Instruction Time : 0

Correct Marks : 5 Wrong Marks : 1

Question Key Details :

Key	Value
Comprehension	MCQ

निम्नलिखित में से कौन सा युग्म जैविक उर्वरक है?

1. एज़ोला और नील हरित शैवाल
2. नास्टॉक और लेग्यूम
3. राइज़ोबियम और घास
4. सेलमोनेल्ला और ई. कोली

Options :

212807127097. 1
212807127098. 2
212807127099. 3
212807127100. 4

Question Number : 61 Question Id : 21280731776 Question Type : MCQ Option Shuffling : No Is Question Mandatory : No Calculator : None
Response Time : N.A Think Time : N.A Minimum Instruction Time : 0

Correct Marks : 5 Wrong Marks : 1

Question Key Details :

Key	Value
Comprehension	MCQ

Which one of the following is exotic breed/s of poultry?

- A. Giriraja
- B. Grampriya
- C. Assel
- D. White Leghorn
- E. Kadaknath

Choose the correct answer from the options given below:

1. A and C only
2. B only
3. E only
4. C and D only

Options :

212807127101. 1
212807127102. 2
212807127103. 3
212807127104. 4

Question Number : 61 Question Id : 21280731776 Question Type : MCQ Option Shuffling : No Is Question Mandatory : No Calculator : None
Response Time : N.A Think Time : N.A Minimum Instruction Time : 0

Correct Marks : 5 Wrong Marks : 1

Question Key Details :

Key	Value
Comprehension	MCQ

निम्नलिखित में से कौन सी कुक्कट की विदेशज नस्ल है/हैं?

- A. गिरिराजा
B. ग्रमप्रिया
C. असील
D. व्हाइट लौगर्हन
E. कडकनाथ

नीचे दिए गए विकल्पों में से सही उत्तर चुनें:

1. केवल A
2. केवल B
3. केवल E
4. केवल C एवं D

Options :

212807127101. 1
212807127102. 2
212807127103. 3
212807127104. 4

Question Number : 62 Question Id : 21280731777 Question Type : MCQ Option Shuffling : No Is Question Mandatory : No Calculator : None
Response Time : N.A Think Time : N.A Minimum Instruction Time : 0

Correct Marks : 5 Wrong Marks : 1

Question Key Details :

Key	Value
Comprehension	MCQ

What is the ICMR recommended per capita requirement of milk per day?

1. 200 gm
2. 350 gm
3. 400 gm
4. 280 gm

Options :

212807127105. 1
212807127106. 2
212807127107. 3
212807127108. 4

Question Number : 62 Question Id : 21280731777 Question Type : MCQ Option Shuffling : No Is Question Mandatory : No Calculator : None
Response Time : N.A Think Time : N.A Minimum Instruction Time : 0

Correct Marks : 5 Wrong Marks : 1

Question Key Details :

Key	Value
Comprehension	MCQ

आई.सी.एम.आर. द्वारा अनुशंसनीय प्रति व्यक्ति प्रति दिन दुग्ध की आवश्यकता कितनी है?

1. 50 ग्राम
2. 20 ग्राम
3. 200 ग्राम
4. 280 ग्राम

Options :

212807127105. 1
212807127106. 2
212807127107. 3
212807127108. 4

Question Number : 63 Question Id : 21280731778 Question Type : MCQ Option Shuffling : No Is Question Mandatory : No Calculator : None Response Time : N.A Think Time : N.A Minimum Instruction Time : 0

Correct Marks : 5 Wrong Marks : 1

Question Key Details :

Key	Value
Comprehension	MCQ

Ranikhet disease is concerned with:

1. Cats
2. Cattle
3. Poultry
4. Silkworm

Options :

212807127109. 1
212807127110. 2
212807127111. 3
212807127112. 4

Question Number : 63 Question Id : 21280731778 Question Type : MCQ Option Shuffling : No Is Question Mandatory : No Calculator : None Response Time : N.A Think Time : N.A Minimum Instruction Time : 0

Correct Marks : 5 Wrong Marks : 1

Question Key Details :

Key	Value
Comprehension	MCQ

रानीखेत रोग का संबंध किससे है?

1. बिल्ली
2. मवेशी
3. पोल्ट्री
4. सिल्कमॉथ

Options :

212807127109. 1
212807127110. 2
212807127111. 3

Question Number : 64 Question Id : 21280731779 Question Type : MCQ Option Shuffling : No Is Question Mandatory : No Calculator : None
 Response Time : N.A Think Time : N.A Minimum Instruction Time : 0
 Correct Marks : 5 Wrong Marks : 1

Question Key Details :

Key	Value
Comprehension	MCQ

Breeding bull is said to be _____ of the herd.

1. Half
2. Full
3. Incomplete
4. Complex

Options :

212807127113. 1
 212807127114. 2
 212807127115. 3
 212807127116. 4

Question Number : 64 Question Id : 21280731779 Question Type : MCQ Option Shuffling : No Is Question Mandatory : No Calculator : None
 Response Time : N.A Think Time : N.A Minimum Instruction Time : 0

Correct Marks : 5 Wrong Marks : 1

Question Key Details :

Key	Value
Comprehension	MCQ

प्रजनन करता हुआ साँड़ झुंड का _____ कहलाता है।

1. आधा
2. संपूर्ण
3. अपूर्ण
4. जटिल

Options :

212807127113. 1
 212807127114. 2
 212807127115. 3
 212807127116. 4

Question Number : 65 Question Id : 21280731780 Question Type : MCQ Option Shuffling : No Is Question Mandatory : No Calculator : None
 Response Time : N.A Think Time : N.A Minimum Instruction Time : 0

Correct Marks : 5 Wrong Marks : 1

Question Key Details :

Key	Value
Comprehension	MCQ

The bacterial disease of livestock cattle and buffalo includes which of the following?

- A. Anthrax
- B. Foot and mouth disease
- C. Haemorrhagic Septicemia
- D. Rinderpest disease
- E. Lumpy skin disease

Choose the correct answer from the options given below:

1. A only
2. B only
3. B and D only
4. A and C only

Options :

- 212807127117. 1
- 212807127118. 2
- 212807127119. 3
- 212807127120. 4

Question Number : 65 Question Id : 21280731780 Question Type : MCQ Option Shuffling : No Is Question Mandatory : No Calculator : None Response Time : N.A Think Time : N.A Minimum Instruction Time : 0

Correct Marks : 5 Wrong Marks : 1

Question Key Details :

Key	Value
Comprehension	MCQ

पशुधन में होने वाले जीवाणु रोगों में सम्मिलित हैं।

- A. एन्थ्रेक्स
- B. फुट एन्ड माऊथ बीमारी
- C. रक्तस्रावी पूतिजीवरक्तता
- D. मासटाइटिस
- E. ब्लोक कार्टर (कृष्ण चतुर्थांश)

नीचे दिए गए विकल्पों में से सही उत्तर चुनें:

1. केवल A
2. केवल B
3. केवल B एवं D
4. केवल A, C एवं E

Options :

- 212807127117. 1
- 212807127118. 2
- 212807127119. 3
- 212807127120. 4

Question Number : 66 Question Id : 21280731781 Question Type : MCQ Option Shuffling : No Is Question Mandatory : No Calculator : None Response Time : N.A Think Time : N.A Minimum Instruction Time : 0

Correct Marks : 5 Wrong Marks : 1

Question Key Details :

Key	Value
Comprehension	MCQ

A ration to be fed to laying birds after 20 weeks of age is called as:

1. Chick mash
2. Grower mash
3. Layer mash
4. Finisher mash

Options :

212807127121. 1
212807127122. 2
212807127123. 3
212807127124. 4

Question Number : 66 Question Id : 21280731781 Question Type : MCQ Option Shuffling : No Is Question Mandatory : No Calculator : None Response Time : N.A Think Time : N.A Minimum Instruction Time : 0

Correct Marks : 5 Wrong Marks : 1

Question Key Details :

Key	Value
Comprehension	MCQ

20 हफ्तों की आयु के बाद लेयिंग पक्षियों को खिलाया जाने वाला राशन कहलाता है:

1. चिक मेश
2. ग्रोअर मेश
3. लेयर मेश
4. फिनिशर मेश

Options :

212807127121. 1
212807127122. 2
212807127123. 3
212807127124. 4

Question Number : 67 Question Id : 21280731782 Question Type : MCQ Option Shuffling : No Is Question Mandatory : No Calculator : None Response Time : N.A Think Time : N.A Minimum Instruction Time : 0

Correct Marks : 5 Wrong Marks : 1

Question Key Details :

Key	Value
Comprehension	MCQ

Which of the following is the method of semen insemination ?

1. Artificial Vagina method
2. Vaginal speculum method
3. Massage method
4. Electro ejaculation method

Options :

212807127125. 1
212807127126. 2
212807127127. 3
212807127128. 4

Question Number : 67 Question Id : 21280731782 Question Type : MCQ Option Shuffling : No Is Question Mandatory : No Calculator : None Response Time : N.A Think Time : N.A Minimum Instruction Time : 0

Correct Marks : 5 Wrong Marks : 1

Question Key Details :

Key	Value
Comprehension	MCQ

निम्नलिखित में से कौन सी एक वीर्य संसेचन की प्रणाली है?

1. कृत्रिम योनि प्रणाली
2. योनि स्पेक्युलम प्रणाली
3. मसाज प्रणाली
4. इलेक्ट्रो स्खलन प्रणाली

Options :

212807127125. 1

212807127126. 2

212807127127. 3

212807127128. 4

Question Number : 68 Question Id : 21280731783 Question Type : MCQ Option Shuffling : No Is Question Mandatory : No Calculator : None Response Time : N.A Think Time : N.A Minimum Instruction Time : 0

Correct Marks : 5 Wrong Marks : 1

Question Key Details :

Key	Value
Comprehension	MCQ

The process of preparation of the sperms for fertilization is known as:

1. Parturition
2. Syngamy
3. Capacitation
4. Ovulation

Options :

212807127129. 1

212807127130. 2

212807127131. 3

212807127132. 4

Question Number : 68 Question Id : 21280731783 Question Type : MCQ Option Shuffling : No Is Question Mandatory : No Calculator : None Response Time : N.A Think Time : N.A Minimum Instruction Time : 0

Correct Marks : 5 Wrong Marks : 1

Question Key Details :

Key	Value
Comprehension	MCQ

शुक्राणुओं को निषेचन के लिए तैयार करने की विधि कहलाती है:

1. प्रसव
2. युग्मक संलयन
3. क्षमतायन
4. अंडोत्सर्ग

Options :

- 212807127129. 1
- 212807127130. 2
- 212807127131. 3
- 212807127132. 4

Question Number : 69 Question Id : 21280731784 Question Type : MCQ Option Shuffling : No Is Question Mandatory : No Calculator : None
Response Time : N.A Think Time : N.A Minimum Instruction Time : 0

Correct Marks : 5 Wrong Marks : 1

Question Key Details :

Key	Value
Comprehension	MCQ

The livestock "Semen "is stored at _____ °C temperature for artificial insemination.

- 1. -5
- 2. -25
- 3. -196
- 4. -96

Options :

- 212807127133. 1
- 212807127134. 2
- 212807127135. 3
- 212807127136. 4

Question Number : 69 Question Id : 21280731784 Question Type : MCQ Option Shuffling : No Is Question Mandatory : No Calculator : None
Response Time : N.A Think Time : N.A Minimum Instruction Time : 0

Correct Marks : 5 Wrong Marks : 1

Question Key Details :

Key	Value
Comprehension	MCQ

पशुधन वीर्य का भंडारण किस तापमान पर किया जाता है?

- 1. -5°C
- 2. -25°C
- 3. -196°C
- 4. -96°C

Options :

- 212807127133. 1
- 212807127134. 2
- 212807127135. 3
- 212807127136. 4

Question Number : 70 Question Id : 21280731785 Question Type : MCQ Option Shuffling : No Is Question Mandatory : No Calculator : None
Response Time : N.A Think Time : N.A Minimum Instruction Time : 0

Correct Marks : 5 Wrong Marks : 1

Question Key Details :

Key	Value
Comprehension	MCQ

Apex institute governing agricultural education in India is:

1. MCAER
2. NCL
3. ICAR
4. KVK

Options :

212807127137. 1
212807127138. 2
212807127139. 3
212807127140. 4

Question Number : 70 Question Id : 21280731785 Question Type : MCQ Option Shuffling : No Is Question Mandatory : No Calculator : None Response Time : N.A Think Time : N.A Minimum Instruction Time : 0

Correct Marks : 5 Wrong Marks : 1

Question Key Details :

Key	Value
Comprehension	MCQ

सर्वोच्च संस्था जो भारत में कृषि शिक्षा का संचालन करती है:

1. एम.सी.ए.ई.आर. (MCAER)
2. एन.सी.एल. (NCL)
3. आई.सी.ए.आर. (ICAR)
4. के. वी. के. (KVK)

Options :

212807127137. 1
212807127138. 2
212807127139. 3
212807127140. 4

Question Number : 71 Question Id : 21280731786 Question Type : MCQ Option Shuffling : No Is Question Mandatory : No Calculator : None Response Time : N.A Think Time : N.A Minimum Instruction Time : 0

Correct Marks : 5 Wrong Marks : 1

Question Key Details :

Key	Value
Comprehension	MCQ

Which of the following are not oilseed crops?

- A. Groundnut crop
- B. Lathyrus crop
- C. Jowar crop
- D. Sunflower crop
- E. Mustard crop

Choose the correct answer from the options given below:

1. A and E only
2. C and D only
3. D and E only
4. B and C only

Options :

212807127141. 1
212807127142. 2
212807127143. 3
212807127144. 4

Question Number : 71 Question Id : 21280731786 Question Type : MCQ Option Shuffling : No Is Question Mandatory : No Calculator : None Response Time : N.A Think Time : N.A Minimum Instruction Time : 0

Correct Marks : 5 Wrong Marks : 1

Question Key Details :

Key	Value
Comprehension	MCQ

निम्नलिखित में से कौन सी तैलीय फसल नहीं है?

- A. मूँगफली की फसल
B. सूरजमुखी की फसल
C. ज्वार की फसल
D. कुसुंभ (करडी) फसल
E. सरसों की फसल

नीचे दिए गए विकल्पों में से सही उत्तर चुनें:

- केवल A और B
- केवल C और D
- केवल D और E
- केवल C

Options :

212807127141. 1
212807127142. 2
212807127143. 3
212807127144. 4

Question Number : 72 Question Id : 21280731787 Question Type : MCQ Option Shuffling : No Is Question Mandatory : No Calculator : None Response Time : N.A Think Time : N.A Minimum Instruction Time : 0

Correct Marks : 5 Wrong Marks : 1

Question Key Details :

Key	Value
Comprehension	MCQ

Which is example of an edible oil cake?

- Neem cake
- Castor cake
- Groundnut cake
- Jatropha cake

Options :

212807127145. 1
212807127146. 2
212807127147. 3
212807127148. 4

Question Number : 72 Question Id : 21280731787 Question Type : MCQ Option Shuffling : No Is Question Mandatory : No Calculator : None Response Time : N.A Think Time : N.A Minimum Instruction Time : 0

Correct Marks : 5 Wrong Marks : 1

Question Key Details :

Key	Value
Comprehension	MCQ

निम्नलिखित में से कौन सा खानेवाले तेल पींडिका का उदाहरण है?

1. नीम पिंडिका
2. एरंडी पींडिका
3. मूँगफुली पींडिका
4. करंज पिंडिका

Options :

212807127145. 1
212807127146. 2
212807127147. 3
212807127148. 4

Question Number : 73 Question Id : 21280731788 Question Type : MCQ Option Shuffling : No Is Question Mandatory : No Calculator : None Response Time : N.A Think Time : N.A Minimum Instruction Time : 0

Correct Marks : 5 Wrong Marks : 1

Question Key Details :

Key	Value
Comprehension	MCQ

Which of the following are the major primary nutrients?

- A. Nitrogen
- B. Calcium
- C. Phosphorus
- D. Sulphur
- E. Potassium

Choose the correct answer from the options given below:

1. B only
2. D only
3. B and D only
4. A, C and E only

Options :

212807127149. 1
212807127150. 2
212807127151. 3
212807127152. 4

Question Number : 73 Question Id : 21280731788 Question Type : MCQ Option Shuffling : No Is Question Mandatory : No Calculator : None Response Time : N.A Think Time : N.A Minimum Instruction Time : 0

Correct Marks : 5 Wrong Marks : 1

Question Key Details :

Key	Value
Comprehension	MCQ

निम्नलिखित में से कौन से मुख्य प्राथमिक पोषक है?

- A. नाइट्रोजन
- B. कैल्शियम
- C. फॉस्फोरस
- D. सल्फर
- E. पोटेशियम

नीचे दिए गए विकल्पों में से सही उत्तर चुनें:

1. केवल B
2. केवल D
3. केवल B और D
4. केवल A, C और E

Options :

- 212807127149. 1
- 212807127150. 2
- 212807127151. 3
- 212807127152. 4

Question Number : 74 Question Id : 21280731789 Question Type : MCQ Option Shuffling : No Is Question Mandatory : No Calculator : None Response Time : N.A Think Time : N.A Minimum Instruction Time : 0

Correct Marks : 5 Wrong Marks : 1

Question Key Details :

Key	Value
Comprehension	MCQ

BGA is _____ fertilizer.

1. Bio
2. Chemical
3. Synthetic
4. Liquid

Options :

- 212807127153. 1
- 212807127154. 2
- 212807127155. 3
- 212807127156. 4

Question Number : 74 Question Id : 21280731789 Question Type : MCQ Option Shuffling : No Is Question Mandatory : No Calculator : None Response Time : N.A Think Time : N.A Minimum Instruction Time : 0

Correct Marks : 5 Wrong Marks : 1

Question Key Details :

Key	Value
Comprehension	MCQ

बी. जी. ए. _____ उर्वरक है।

1. जैविक
2. रासायनिक
3. संश्लेषित
4. द्रव्य

Options :

212807127153. 1
212807127154. 2
212807127155. 3
212807127156. 4

Question Number : 75 Question Id : 21280731790 Question Type : MCQ Option Shuffling : No Is Question Mandatory : No Calculator : None Response Time : N.A Think Time : N.A Minimum Instruction Time : 0

Correct Marks : 5 Wrong Marks : 1

Question Key Details :

Key	Value
Comprehension	MCQ

Drip irrigation method saves _____ % water

1. 30
2. 20
3. 40
4. 70

Options :

212807127157. 1
212807127158. 2
212807127159. 3
212807127160. 4

Question Number : 75 Question Id : 21280731790 Question Type : MCQ Option Shuffling : No Is Question Mandatory : No Calculator : None Response Time : N.A Think Time : N.A Minimum Instruction Time : 0

Correct Marks : 5 Wrong Marks : 1

Question Key Details :

Key	Value
Comprehension	MCQ

बूँद सिंचाई प्रणाली से _____ % घानी की बचत होती है।

1. 30
2. 20
3. 40
4. 70

Options :

212807127157. 1
212807127158. 2
212807127159. 3
212807127160. 4

Question Number : 76 Question Id : 21280731791 Question Type : MCQ Option Shuffling : No Is Question Mandatory : No Calculator : None Response Time : N.A Think Time : N.A Minimum Instruction Time : 0

Correct Marks : 5 Wrong Marks : 1

Question Key Details :

Key	Value
Comprehension	MCQ

The artificial application of water for supplying moisture for plant growth is known as:

1. Irrigation
2. Drainage
3. Ploughing
4. Rainwater harvesting

Options :

- 212807127161. 1
- 212807127162. 2
- 212807127163. 3
- 212807127164. 4

Question Number : 76 Question Id : 21280731791 Question Type : MCQ Option Shuffling : No Is Question Mandatory : No Calculator : None Response Time : N.A Think Time : N.A Minimum Instruction Time : 0

Correct Marks : 5 Wrong Marks : 1

Question Key Details :

Key	Value
Comprehension	MCQ

पौधों की वृद्धि के लिए आर्द्रता का अनुप्रयोग कृत्रिम प्रणाली से पानी संभरण की प्रक्रिया द्वारा कहलाता है:

1. सिंचाई
2. निष्कासन
3. जुताई
4. वर्षा जल संचयन

Options :

- 212807127161. 1
- 212807127162. 2
- 212807127163. 3
- 212807127164. 4

Question Number : 77 Question Id : 21280731792 Question Type : MCQ Option Shuffling : No Is Question Mandatory : No Calculator : None Response Time : N.A Think Time : N.A Minimum Instruction Time : 0

Correct Marks : 5 Wrong Marks : 1

Question Key Details :

Key	Value
Comprehension	MCQ

Tensionmeter instrument is used to measure soil:

1. Temperature
2. Moisture
3. pH
4. Consistency

Options :

212807127165. 1
212807127166. 2
212807127167. 3
212807127168. 4

Question Number : 77 Question Id : 21280731792 Question Type : MCQ Option Shuffling : No Is Question Mandatory : No Calculator : None Response Time : N.A Think Time : N.A Minimum Instruction Time : 0

Correct Marks : 5 Wrong Marks : 1

Question Key Details :

Key	Value
Comprehension	MCQ

पृष्ठतनावमापी यंत्र का उपयोग मृदा का _____ मापने के लिए किया जाता है।

1. तापमान
2. आर्द्रता
3. pH
4. अनुकूलता

Options :

212807127165. 1
212807127166. 2
212807127167. 3
212807127168. 4

Question Number : 78 Question Id : 21280731793 Question Type : MCQ Option Shuffling : No Is Question Mandatory : No Calculator : None Response Time : N.A Think Time : N.A Minimum Instruction Time : 0

Correct Marks : 5 Wrong Marks : 1

Question Key Details :

Key	Value
Comprehension	MCQ

The chemical which is used to control weeds is called as:

1. Herbicide
2. Fungicide
3. Insecticide
4. Acaricide

Options :

212807127169. 1
212807127170. 2
212807127171. 3
212807127172. 4

Question Number : 78 Question Id : 21280731793 Question Type : MCQ Option Shuffling : No Is Question Mandatory : No Calculator : None Response Time : N.A Think Time : N.A Minimum Instruction Time : 0

Correct Marks : 5 Wrong Marks : 1

Question Key Details :

Key	Value
Comprehension	MCQ

कौन से रसायन का प्रयोग खरपतवार नियंत्रण के लिए किया जाता है?

1. शाकनाशी
2. कवकनाशी
3. कीटनाशी
4. ऐकैरसनाशी

Options :

212807127169. 1
212807127170. 2
212807127171. 3
212807127172. 4

Question Number : 79 Question Id : 21280731794 Question Type : MCQ Option Shuffling : No Is Question Mandatory : No Calculator : None Response Time : N.A Think Time : N.A Minimum Instruction Time : 0

Correct Marks : 5 Wrong Marks : 1

Question Key Details :

Key	Value
Comprehension	MCQ

Match List 1 with List II

LIST I Weed type		LIST II Meaning	
A.	Annual weed	I.	They occur almost at any time of the year
B.	Biennial weed	II.	They require more than two years to complete
C.	Perennial weed	III.	They live for two seasons
D.	Multi season weed	IV.	They grow, mature within a season

Choose the correct answer from the options given below:

1. A-IV, B-III, C-II, D-I
2. A-I, B-II, C-III, D-IV
3. A-III, B-II, C-I, D-IV
4. A-II, B-III, C-IV, D-I

Options :

212807127173. 1
212807127174. 2
212807127175. 3
212807127176. 4

Question Number : 79 Question Id : 21280731794 Question Type : MCQ Option Shuffling : No Is Question Mandatory : No Calculator : None Response Time : N.A Think Time : N.A Minimum Instruction Time : 0

Correct Marks : 5 Wrong Marks : 1

Question Key Details :

Key	Value
Comprehension	MCQ

सूची I का सूची II से मिलान कीजिए

सूची I	सूची II
खरपतवार किस्म	अर्थ
A. वार्षिक खरपतवार	I. वर्ष के किसी भी समय होते हैं।
B. द्विवर्षी खरपतवार	II. दो से अधिक वर्ष जैव चक्रण के लिए आवश्यक हैं।
C. बारहमासी खरपतवार	III. दो ऋतुओं तक जीवित रहते हैं।
D. बहुमौसमी खरपतवार	IV. एक ऋतु में वृद्धि करते हैं तथा परिपक्व होते हैं।

निम्नलिखित विकल्पों में से सही उत्तर का चयन कीजिए :

1. A-IV, B-III, C-II, D-I
2. A-I, B-II, C-III, D-IV
3. A-III, B-II, C-I, D-IV
4. A-II, B-III, C-IV, D-I

Options :

212807127173. 1
212807127174. 2
212807127175. 3
212807127176. 4

Question Number : 80 Question Id : 21280731795 Question Type : MCQ Option Shuffling : No Is Question Mandatory : No Calculator : None Response Time : N.A Think Time : N.A Minimum Instruction Time : 0

Correct Marks : 5 Wrong Marks : 1

Question Key Details :

Key	Value
Comprehension	MCQ

Gram leaves contains _____ acid.

1. HCN
2. Carbonic
3. Malic
4. Acetic

Options :

212807127177. 1
212807127178. 2
212807127179. 3
212807127180. 4

Question Number : 80 Question Id : 21280731795 Question Type : MCQ Option Shuffling : No Is Question Mandatory : No Calculator : None Response Time : N.A Think Time : N.A Minimum Instruction Time : 0

Correct Marks : 5 Wrong Marks : 1

Question Key Details :

Key	Value
Comprehension	MCQ

चने के पत्तो में _____ अम्ल होता है।

1. एच सी एन
2. कार्बोनिंक
3. मेलिक
4. एसिटिक

Options :

212807127177. 1
212807127178. 2
212807127179. 3
212807127180. 4

Question Number : 81 Question Id : 21280731796 Question Type : MCQ Option Shuffling : No Is Question Mandatory : No Calculator : None Response Time : N.A Think Time : N.A Minimum Instruction Time : 0

Correct Marks : 5 Wrong Marks : 1

Question Key Details :

Key	Value
Comprehension	MCQ

Match List I with List II

LIST I Traditional crop		LIST II Botanical Name	
A.	Mungbean	I.	<i>Glycine max</i>
B.	Black gram	II.	<i>Arachis hypogaea</i>
C.	Groundnut	III.	<i>Vigna mungo</i>
D.	Soybean	IV.	<i>Vigna radiata</i>

Choose the correct answer from the options given below:

1. A-II, B-III, C-IV, D-I
2. A-IV, B-I, C-II, D-III
3. A-IV, B-II, C-II, D-I
4. A-I, B-II, C-III, D-IV

Options :

212807127181. 1
212807127182. 2
212807127183. 3
212807127184. 4

Question Number : 81 Question Id : 21280731796 Question Type : MCQ Option Shuffling : No Is Question Mandatory : No Calculator : None Response Time : N.A Think Time : N.A Minimum Instruction Time : 0

Correct Marks : 5 Wrong Marks : 1

Question Key Details :

Key	Value
Comprehension	MCQ

सूची I का सूची II से मिलान कीजिए

सूची I	सूची II
पारंपारिक फसल	वानस्पतिक नाम
A. मूँग बीन	I. ग्लायसीन मैक्स
B. काला चना	II. एरेकिस हाइपोजिया
C. मूँगफली	III. विम्ला मूँगो
D. सायबीन	IV. विम्ला रेडिएटा

निम्नलिखित विकल्पों में से सही उत्तर का चयन कीजिए :

1. A-II, B-III, C-IV, D-I

2. A-IV, B-I, C-II, D-III

3. A-IV, B-II, C-II, D-I

4. A-I, B-II, C-III, D-IV

Options :

212807127181. 1

212807127182. 2

212807127183. 3

212807127184. 4

Question Number : 82 Question Id : 21280731797 Question Type : MCQ Option Shuffling : No Is Question Mandatory : No Calculator : None Response Time : N.A Think Time : N.A Minimum Instruction Time : 0

Correct Marks : 5 Wrong Marks : 1

Question Key Details :

Key	Value
Comprehension	MCQ

Leaf spot (Tikka) is a disease of _____ crop.

1. Sugarcane

2. Groundnut

3. Sunflower

4. Sorghum

Options :

212807127185. 1

212807127186. 2

212807127187. 3

212807127188. 4

Question Number : 82 Question Id : 21280731797 Question Type : MCQ Option Shuffling : No Is Question Mandatory : No Calculator : None Response Time : N.A Think Time : N.A Minimum Instruction Time : 0

Correct Marks : 5 Wrong Marks : 1

Question Key Details :

Key	Value
Comprehension	MCQ

लीफ स्पॉट (टिक्का) _____ फसल का एक रोग है।

1. गन्ना
2. मूँगफली
3. सूरजमुखी
4. सोरघम

Options :

212807127185. 1
212807127186. 2
212807127187. 3
212807127188. 4

Question Number : 83 Question Id : 21280731798 Question Type : MCQ Option Shuffling : No Is Question Mandatory : No Calculator : None Response Time : N.A Think Time : N.A Minimum Instruction Time : 0

Correct Marks : 5 Wrong Marks : 1

Question Key Details :

Key	Value
Comprehension	MCQ

In which system of planting fruit orchard, the plant to plant and row to row distance is same?

1. Rectangular system
2. Contour system
3. Square system
4. Hexagonal system

Options :

212807127189. 1
212807127190. 2
212807127191. 3
212807127192. 4

Question Number : 83 Question Id : 21280731798 Question Type : MCQ Option Shuffling : No Is Question Mandatory : No Calculator : None Response Time : N.A Think Time : N.A Minimum Instruction Time : 0

Correct Marks : 5 Wrong Marks : 1

Question Key Details :

Key	Value
Comprehension	MCQ

निम्नलिखित में से कौन सी फलोद्यान रोपण प्रणाली में पौधे का प्रौधे से और कतार का से दूरी समान रहती है?

1. आयताकार प्रणाली
2. परिरेखिक प्रणाली
3. वर्ग प्रणाली
4. षड्भुजाकार प्रणाली

Options :

212807127189. 1
212807127190. 2
212807127191. 3
212807127192. 4

Question Number : 84 Question Id : 21280731799 Question Type : MCQ Option Shuffling : No Is Question Mandatory : No Calculator : None Response Time : N.A Think Time : N.A Minimum Instruction Time : 0

Correct Marks : 5 Wrong Marks : 1

Question Key Details :

Key	Value
Comprehension	MCQ

Which statement(s) is/are **incorrect** in relation to the objectives of training operation?

- A. To limit the growth and spread of the tree
- B. To admit adequate sunlight
- C. To develop strong frame work
- D. To remove crowded, diseased, damaged and insect infected shoots

Choose the correct answer from the options given below:

- 1. A only
- 2. B and C only
- 3. A and D only
- 4. D only

Options :

- 212807127193. 1
- 212807127194. 2
- 212807127195. 3
- 212807127196. 4

Question Number : 84 Question Id : 21280731799 Question Type : MCQ Option Shuffling : No Is Question Mandatory : No Calculator : None Response Time : N.A Think Time : N.A Minimum Instruction Time : 0

Correct Marks : 5 Wrong Marks : 1

Question Key Details :

Key	Value
Comprehension	MCQ

निम्नलिखित में से "प्रशिक्षण प्रचालन के उद्देश्य" से संबंधित गलत विकल्प/पों को छाँटिए।

- A. पेड़ की वृद्धि और फैलाव की सीमित करना।
- B. पर्याप्त सूर्य के प्रकाश को आने देना।
- C. सुदृढ़ प्राधार का विकास करना।
- D. सघन, रोग से नष्ट और कीटों से ग्रस्त शखाओं को हटाना.

नीचे दिए गए विकल्पों में से सही उत्तर चुनें:

- 1. केवल A
- 2. केवल B और C
- 3. और A और D
- 4. केवल E

Options :

- 212807127193. 1
- 212807127194. 2
- 212807127195. 3
- 212807127196. 4

Question Number : 85 Question Id : 21280731800 Question Type : MCQ Option Shuffling : No Is Question Mandatory : No Calculator : None Response Time : N.A Think Time : N.A Minimum Instruction Time : 0

Correct Marks : 5 Wrong Marks : 1

Question Key Details :

Key	Value
Comprehension	MCQ

Which of the following are the methods of pruning?

- A. High head
- B. Open center
- C. Thinning out
- D. Low head
- E. Heading back

Choose the correct answer from the options given below:

1. A and D only
2. B only
3. A, B and C only
4. C and E only

Options :

- 212807127197. 1
- 212807127198. 2
- 212807127199. 3
- 212807127200. 4

Question Number : 85 Question Id : 21280731800 Question Type : MCQ Option Shuffling : No Is Question Mandatory : No Calculator : None Response Time : N.A Think Time : N.A Minimum Instruction Time : 0

Correct Marks : 5 Wrong Marks : 1

Question Key Details :

Key	Value
Comprehension	MCQ

निम्नलिखित में से छटाई की विधियाँ छाँटिये।

- A. उच्च शीर्ष (हाई हेड)
- B. खुला केन्द्र (ओपन सेन्टर)
- C. तनुकरण (थिनिंग आउट)
- D. निम्न शीर्ष (लो हेड)
- E. शीर्षस्थ संवरण (हेडिंग बैक)

नीचे दिए गए विकल्पों में से सही उत्तर चुनें:

1. केवल A और D
2. केवल B
3. केवल A, B और C
4. केवल C और E

Options :

- 212807127197. 1
- 212807127198. 2
- 212807127199. 3
- 212807127200. 4

Question Number : 86 Question Id : 21280731801 Question Type : MCQ Option Shuffling : No Is Question Mandatory : No Calculator : None Response Time : N.A Think Time : N.A Minimum Instruction Time : 0

Correct Marks : 5 Wrong Marks : 1

Question Key Details :

Key	Value
Comprehension	MCQ

Which of the following rootstock is used in propagation of citrus crops ?

1. Raipur lime
2. Rangpur lime
3. Lucknow lime
4. Vellaikulumban lime

Options :

212807127201. 1
212807127202. 2
212807127203. 3
212807127204. 4

Question Number : 86 Question Id : 21280731801 Question Type : MCQ Option Shuffling : No Is Question Mandatory : No Calculator : None Response Time : N.A Think Time : N.A Minimum Instruction Time : 0

Correct Marks : 5 Wrong Marks : 1

Question Key Details :

Key	Value
Comprehension	MCQ

निम्नलिखित में से कौन सा जड़ स्कंध सिट्रस फसल के प्रवर्धन में उपयोग में लाया जाता है?

1. रामपुर लाइम
2. रंगपुर लाइम
3. लखनऊ-लाइम
4. वेल्पाईकुलंबन लाइम

Options :

212807127201. 1
212807127202. 2
212807127203. 3
212807127204. 4

Question Number : 87 Question Id : 21280731802 Question Type : MCQ Option Shuffling : No Is Question Mandatory : No Calculator : None Response Time : N.A Think Time : N.A Minimum Instruction Time : 0

Correct Marks : 5 Wrong Marks : 1

Question Key Details :

Key	Value
Comprehension	MCQ

Identify the major problem in cultivation of Alphonso variety of mango?

1. Low yield
2. Low fruit quality
3. Biennial bearing/ Alternate bearing
4. High incidence of pest's attack and diseases

Options :

212807127205. 1
212807127206. 2
212807127207. 3
212807127208. 4

Question Number : 87 Question Id : 21280731802 Question Type : MCQ Option Shuffling : No Is Question Mandatory : No Calculator : None
Response Time : N.A Think Time : N.A Minimum Instruction Time : 0

Correct Marks : 5 Wrong Marks : 1

Question Key Details :

Key	Value
Comprehension	MCQ

आम की अलाफान्सो किस्म की खेती में आने वाली मुख्य समस्या को पहचानिए।

1. अल्प उत्पाद
2. कम गुणवत्ता वाले फल
3. द्विवर्षीय उपज/वैकल्पिक उपज
4. पीड़क जंतुओं और रोगों के अधिक संचात

Options :

212807127205. 1

212807127206. 2

212807127207. 3

212807127208. 4

Question Number : 88 Question Id : 21280731803 Question Type : MCQ Option Shuffling : No Is Question Mandatory : No Calculator : None
Response Time : N.A Think Time : N.A Minimum Instruction Time : 0

Correct Marks : 5 Wrong Marks : 1

Question Key Details :

Key	Value
Comprehension	MCQ

The family of Guava is:

1. Myrtaceae
2. Annonaceae
3. Rhamnaceae
4. Arecaeae

Options :

212807127209. 1

212807127210. 2

212807127211. 3

212807127212. 4

Question Number : 88 Question Id : 21280731803 Question Type : MCQ Option Shuffling : No Is Question Mandatory : No Calculator : None
Response Time : N.A Think Time : N.A Minimum Instruction Time : 0

Correct Marks : 5 Wrong Marks : 1

Question Key Details :

Key	Value
Comprehension	MCQ

अमरूद की फैमिली (कुल) है:

1. मिरटेसी
2. एनुनेसी
3. रहानेसी
4. एसीकेसी

Options :

- 212807127209. 1
- 212807127210. 2
- 212807127211. 3
- 212807127212. 4

Question Number : 89 Question Id : 21280731804 Question Type : MCQ Option Shuffling : No Is Question Mandatory : No Calculator : None Response Time : N.A Think Time : N.A Minimum Instruction Time : 0

Correct Marks : 5 Wrong Marks : 1

Question Key Details :

Key	Value
Comprehension	MCQ

Family of Grapefruit is:

1. Anacardiaceae
2. Rutaceae
3. Vitaceae
4. Musaceae

Options :

- 212807127213. 1
- 212807127214. 2
- 212807127215. 3
- 212807127216. 4

Question Number : 89 Question Id : 21280731804 Question Type : MCQ Option Shuffling : No Is Question Mandatory : No Calculator : None Response Time : N.A Think Time : N.A Minimum Instruction Time : 0

Correct Marks : 5 Wrong Marks : 1

Question Key Details :

Key	Value
Comprehension	MCQ

चकोतरे (ग्रेप फ्रूट) की फैमिली (कुल) है:

1. एनाकार्डिएसी
2. रुटेसी
3. वाइटेसी
4. मुसेसी

Options :

- 212807127213. 1
- 212807127214. 2
- 212807127215. 3
- 212807127216. 4

Question Number : 90 Question Id : 21280731805 Question Type : MCQ Option Shuffling : No Is Question Mandatory : No Calculator : None Response Time : N.A Think Time : N.A Minimum Instruction Time : 0

Correct Marks : 5 Wrong Marks : 1

Question Key Details :

Key	Value
Comprehension	MCQ

Match List 1 with List II

LIST I Fruit crop		LIST II Variety	
A.	Mango	I.	Basrai
B.	Guava	II.	Washington
C.	Banana	III.	Sardar
D.	Papaya	IV.	Alphonso

Choose the correct answer from the options given below:

1. A-I, B-II, C-III, D-IV
2. A-IV, B-III, C-I, D-II
3. A-IV, B-III, C-II, D-I
4. A-III, B-IV, C-II, D-I

Options :

212807127217. 1
212807127218. 2
212807127219. 3
212807127220. 4

Question Number : 90 Question Id : 21280731805 Question Type : MCQ Option Shuffling : No Is Question Mandatory : No Calculator : None Response Time : N.A Think Time : N.A Minimum Instruction Time : 0

Correct Marks : 5 Wrong Marks : 1

Question Key Details :

Key	Value
Comprehension	MCQ

सूची I का सूची II से मिलान कीजिए

सूची I फलों की फसल		सूची II किस्म	
A.	आम	I.	बसराय
B.	अमरूद	II.	वाशिंगटन
C.	केला	III.	सरदार
D.	पपीता	IV.	अल्फान्सो

निम्नलिखित विकल्पों में से सही उत्तर का चयन कीजिए :

1. A-I, B-II, C-III, D-IV
2. A-IV, B-III, C-I, D-II
3. A-IV, B-III, C-II, D-I
4. A-III, B-IV, C-II, D-I

Options :

212807127217. 1
212807127218. 2
212807127219. 3
212807127220. 4

Sub-Section Number :

2

Sub-Section Id :

2128072485

Question Shuffling Allowed :

No

Is Section Default? :

null

Question Number : 91 Question Id : 21280731806 Question Type : MCQ Option Shuffling : No Is Question Mandatory : No Calculator : None Response Time : N.A Think Time : N.A Minimum Instruction Time : 0

Correct Marks : 5 Wrong Marks : 1

Question Key Details :

Key	Value
Comprehension	Comp1

Read the passage and answer question

Compost is an organic manure prepared from plant residues and animal waste by decomposition. The process of making compost is known as composting. It is largely a biological process in which aerobic (which requires air or oxygen) and anaerobic (which function in the absence of air or free oxygen) microorganisms decompose organic matter and lower the carbon nitrogen ratio of the refuse. In the aerobic process, the mixed farm residues are collected in the pits of convenient size, say 15' x 5' x 3' (350 x 150 x 90 cm). Each day's collection is spread in a thin layer and sprinkled with a mixture of fresh cow dung. Compost manure is reinforced with super phosphate @ 25 kg per ton of manure. When the pit is filled to a height of 1.5 to 2.0 feet (45-60 cm) above ground level the surface is plastered with one inch layer of a mixture of mud and cow dung. The compost becomes ready in about three to four months without any further attention.

Which of the following is an organic manure prepared from plant residues and animal waste by decomposition?

1. Pressmud cake
2. Green manure
3. Compost
4. Sheep and goat manure

Options :

212807127221. 1
212807127222. 2
212807127223. 3
212807127224. 4

Question Number : 91 Question Id : 21280731806 Question Type : MCQ Option Shuffling : No Is Question Mandatory : No Calculator : None Response Time : N.A Think Time : N.A Minimum Instruction Time : 0

Correct Marks : 5 Wrong Marks : 1

Question Key Details :

Key	Value
Comprehension	Comp1

निम्नलिखित अनुच्छेद पढ़कर प्रश्नों के उत्तर दें:

कम्पोस्ट एक कार्बनिक खाद है जो पादपों तथा जानवरों के अवशेषों के अपघटन से तैयार किया जाता है। कम्पोस्ट बनाने की प्रक्रिया को कम्पोस्टिंग कहते हैं। अधिकतर यह एक जैविक प्रक्रिया है जिसमें वायवीय (जिसमें वायु या ऑक्सीजन की आवश्यकता होती है) तथा अवायवीय (जो वायु या स्वतंत्र ऑक्सीजन की अनुपस्थिति में कार्य करता है) सूक्ष्मजीवी कार्बनिक पदार्थों को अपघटित करके कचरे के कार्बन तथा नाइट्रोजन अनुपात को कम करते हैं। वायवीय प्रक्रिया में, खेतों से प्राप्त मिश्रित अवशेषों को सुविधाजनक आकार के गड्ढों में एकत्र किया जाता है जैसे 15' x 5' x 3' (350 x 150 x 90 सें.मी)। प्रतिदिन के एकत्रण को एक पतली परत के रूप में फैला कर ताजे गोबर के मिश्रण को इस पर छिड़क दिया जाता है। कम्पोस्ट खाद को 25 कि.ग्रा. प्रति टन खाद के हिसाब से सुपर फॉस्फेट द्वारा पुनर्बलित किया जाता है। जब भूमि स्तर से 1.5 से 2 फुट ऊपर तक गड्ढा भर जाता है तो इसके तल को मिट्टी तथा गोबर के मिश्रण की एक इंच मोटी परत द्वारा लीप कर बंद कर दिया जाता है। अब यह बिना और कोई ध्यान दिए ही 3 से 4 माह में तैयार हो जाता है।

निम्नलिखितमें से कौन सी जैविक खाद है जो पौधों के अवशिष्ट और जानवरों के अपशिष्ट पदार्थों के अपघटन से बनती है?

1. प्रेसमड केक
2. हरी खाद
3. कम्पोस्ट
4. भेड़ और बकरी की खाद

Options :

212807127221. 1
212807127222. 2
212807127223. 3
212807127224. 4

Question Number : 92 Question Id : 21280731807 Question Type : MCQ Option Shuffling : No Is Question Mandatory : No Calculator : None Response Time : N.A Think Time : N.A Minimum Instruction Time : 0

Correct Marks : 5 Wrong Marks : 1

Question Key Details :

Key	Value
Comprehension	Comp1

Read the passage and answer question

Compost is an organic manure prepared from plant residues and animal waste by decomposition. The process of making compost is known as composting. It is largely a biological process in which aerobic (which requires air or oxygen) and anaerobic (which function in the absence of air or free oxygen) microorganisms decompose organic matter and lower the carbon nitrogen ratio of the refuse. In the aerobic process, the mixed farm residues are collected in the pits of convenient size, say 15' x 5' x 3' (350 x 150 x 90 cm). Each day's collection is spread in a thin layer and sprinkled with a mixture of fresh cow dung. Compost manure is reinforced with super phosphate @ 25 kg per ton of manure. When the pit is filled to a height of 1.5 to 2.0 feet (45-60 cm) above ground level the surface is plastered with one inch layer of a mixture of mud and cow dung. The compost becomes ready in about three to four months without any further attention.

What is the size of compost pit?

1. 230 × 80 × 40 cm
2. 460 × 160 × 80 cm
3. 90 × 150 × 450 cm
4. 450 × 150 × 90 cm

Options :

212807127225. 1
212807127226. 2
212807127227. 3
212807127228. 4

Question Number : 92 Question Id : 21280731807 Question Type : MCQ Option Shuffling : No Is Question Mandatory : No Calculator : None Response Time : N.A Think Time : N.A Minimum Instruction Time : 0

Correct Marks : 5 Wrong Marks : 1

Question Key Details :

Key	Value
Comprehension	Comp1

निम्नलिखित अनुच्छेद पढ़कर प्रश्नों के उत्तर दें:

कम्पोस्ट एक कार्बनिक खाद है जो पादपों तथा जानवरों के अवशेषों के अपघटन से तैयार किया जाता है। कम्पोस्ट बनाने की प्रक्रिया को कम्पोस्टिंग कहते हैं। अधिकतर यह एक जैविक प्रक्रिया है जिसमें वायवीय (जिसमें वायु या ऑक्सीजन की आवश्यकता होती है) तथा अवायवीय (जो वायु या स्वतंत्र ऑक्सीजन की अनुपस्थिति में कार्य करता है) सूक्ष्मजीवी कार्बनिक पदार्थों को अपघटित करके कचरे के कार्बन तथा नाइट्रोजन अनुपात को कम करते हैं। वायवीय प्रक्रिया में, खेतों से प्राप्त मिश्रित अवशेषों को सुविधाजनक आमाप के गड्ढों में एकत्र किया जाता है जैसे 15' × 5' × 3' (350 × 150 × 90 से.मी)। प्रतिदिन के एकत्रण को एक पतली परत के रूप में फैला कर ताजे गोबर के मिश्रण को इस पर छिड़क दिया जाता है। कम्पोस्ट खाद को 25 कि.ग्रा. प्रति टन खाद के हिसाब से सुपर फॉस्फेट द्वारा पुनर्बलित किया जाता है। जब भूमि स्तर से 1.5 से 2 फुट ऊपर तक गड्ढा भर जाता है तो इसके तल को मिट्टी तथा गोबर के मिश्रण की एक इंच मोटी परत द्वारा लीप कर बंद कर दिया जाता है। अब यह बिना और कोई ध्यान दिए ही 3 से 4 माह में तैयार हो जाता है।

कम्पोस्ट के गड्ढे का क्या आमाप है?

1. 230 × 80 × 40 cm
2. 460 × 160 × 80 cm
3. 90 × 150 × 450 cm
4. 450 × 150 × 90 cm

Options :

212807127225. 1
212807127226. 2
212807127227. 3

Question Number : 93 Question Id : 21280731808 Question Type : MCQ Option Shuffling : No Is Question Mandatory : No Calculator : None
Response Time : N.A Think Time : N.A Minimum Instruction Time : 0

Correct Marks : 5 Wrong Marks : 1

Question Key Details :

Key	Value
Comprehension	Compl

Read the passage and answer question

Compost is an organic manure prepared from plant residues and animal waste by decomposition. The process of making eompost is known as composting. It is largely a biological process in which aerobic (which requires air or oxygen) and anaerobic (which function in the absence of air or free oxygen) microorganisms decompose organic matter and lower the carbon nitrogen ratio of the refuse. In the aerobic process, the mixed farm residues are collected in the pits of convenient size, say 15' x 5' x 3' (350 x 150 x 90 cm). Each day's collection is spread in a thin layer and sprinkled with a mixture of fresh cow dung. Compost manure is reinforced with super phosphate @ 25 kg per ton of manure. When the pit is filled to a height of 1.5 to 2.0 feet (45-60 cm) above ground level the surface is plastered with one inch layer of a mixture of mud and cow dung. The compost becomes ready in about three to four months without any further attention.

The decomposition taking place in the _____ of _____ is aerobic decomposition.

1. presence, O₂
2. presence, CO₂
3. absence, O₂
4. absence, CO₂

Options :

212807127229. 1
212807127230. 2
212807127231. 3
212807127232. 4

Question Number : 93 Question Id : 21280731808 Question Type : MCQ Option Shuffling : No Is Question Mandatory : No Calculator : None
Response Time : N.A Think Time : N.A Minimum Instruction Time : 0

Correct Marks : 5 Wrong Marks : 1

Question Key Details :

Key	Value
Comprehension	Compl

निम्नलिखित अनुच्छेद पढ़कर प्रश्नों के उत्तर दें:

कम्पोस्ट एक कार्बनिक खाद है जो पादपों तथा जानवरों के अवशेषों के अपघटन से तैयार किया जाता है। कम्पोस्ट बनाने की प्रक्रिया को कम्पोस्टिंग कहते हैं। अधिकतर यह एक जैविक प्रक्रिया है जिसमें वायवीय (जिसमें वायु या ऑक्सीजन की आवश्यकता होती है) तथा अवायवीय (जो वायु या स्वतंत्र ऑक्सीजन की अनुपस्थिति में कार्य करता है) सूक्ष्मजीवी कार्बनिक पदार्थों को अपघटित करके कचरे के कार्बन तथा नाइट्रोजन अनुपात को कम करते हैं। वायवीय प्रक्रिया में, खेतों से प्राप्त मिश्रित अवशेषों को सुविधाजनक आकार के गड्ढों में एकत्र किया जाता है जैसे 15' x 5' x 3' (350 x 150 x 90 सें.मी)। प्रतिदिन के एकत्रण को एक पतली परत के रूप में फैला कर ताजे गोबर के मिश्रण को इस पर छिड़क दिया जाता है। कम्पोस्ट खाद को 25 कि.ग्रा. प्रति टन खाद के हिसाब से सुपर फॉस्फेट द्वारा पुनर्बलित किया जाता है। जब भूमि स्तर से 1.5 से 2 फुट ऊपर तक गड्ढा भर जाता है तो इसके तल को मिट्टी तथा गोबर के मिश्रण की एक इंच मोटी परत द्वारा लीप कर बंद कर दिया जाता है। अब यह बिना और कोई ध्यान दिए ही 3 से 4 माह में तैयार हो जाता है।

वायवीय अपघटन क्या है?

1. अपघटन ऑक्सीजन की उपस्थिति में होता है।
2. अपघटन कार्बन डाइऑक्साइड की उपस्थिति में होता है।
3. अपघटन ऑक्सीजन की अनुपस्थिति में होता है।
4. अपघटन कार्बन डाइऑक्साइड की अनुपस्थिति में होता है।

Options :

212807127229. 1
212807127230. 2
212807127231. 3
212807127232. 4

Question Number : 94 Question Id : 21280731809 Question Type : MCQ Option Shuffling : No Is Question Mandatory : No Calculator : None Response Time : N.A Think Time : N.A Minimum Instruction Time : 0

Correct Marks : 5 Wrong Marks : 1

Question Key Details :

Key	Value
Comprehension	Comp1

Read the passage and answer question

Compost is an organic manure prepared from plant residues and animal waste by decomposition. The process of making compost is known as composting. It is largely a biological process in which aerobic (which requires air or oxygen) and anaerobic (which function in the absence of air or free oxygen) microorganisms decompose organic matter and lower the carbon nitrogen ratio of the refuse. In the aerobic process, the mixed farm residues are collected in the pits of convenient size, say 15' x 5' x 3' (350 x 150 x 90 cm). Each day's collection is spread in a thin layer and sprinkled with a mixture of fresh cow dung. Compost manure is reinforced with super phosphate @ 25 kg per ton of manure. When the pit is filled to a height of 1.5 to 2.0 feet (45-60 cm) above ground level the surface is plastered with one inch layer of a mixture of mud and cow dung. The compost becomes ready in about three to four months without any further attention.

Which chemical fertilizer is mixed in compost pit?

1. Urea
2. Single super phosphate
3. Muriate of potash
4. Di-ammonium phosphate

Options :

212807127233. 1
212807127234. 2
212807127235. 3
212807127236. 4

Question Number : 94 Question Id : 21280731809 Question Type : MCQ Option Shuffling : No Is Question Mandatory : No Calculator : None Response Time : N.A Think Time : N.A Minimum Instruction Time : 0

Correct Marks : 5 Wrong Marks : 1

Question Key Details :

Key	Value
Comprehension	Comp1

निम्नलिखित अनुच्छेद पढ़कर प्रश्नों के उत्तर दें:

कम्पोस्ट एक कार्बनिक खाद है जो पादपों तथा जानवरों के अवशेषों के अपघटन से तैयार किया जाता है। कम्पोस्ट बनाने की प्रक्रिया को कम्पोस्टिंग कहते हैं। अधिकतर यह एक जैविक प्रक्रिया है जिसमें वायवीय (जिसमें वायु या ऑक्सीजन की आवश्यकता होती है) तथा अवायवीय (जो वायु या स्वतंत्र ऑक्सीजन की अनुपस्थिति में कार्य करता है) सूक्ष्मजीवी कार्बनिक पदार्थों को अपघटित करके कचरे के कार्बन तथा नाइट्रोजन अनुपात को कम करते हैं। वायवीय प्रक्रिया में, खेतों से प्राप्त मिश्रित अवशेषों को सुविधाजनक आमाप के गड्ढों में एकत्र किया जाता है जैसे 15' × 5' × 3' (350 × 150 × 90 सें.मी)। प्रतिदिन के एकत्रण को एक पतली परत के रूप में फैला कर ताजे गोबर के मिश्रण को इस पर छिड़क दिया जाता है। कम्पोस्ट खाद को 25 कि.ग्रा. प्रति टन खाद के हिसाब से सुपर फॉस्फेट द्वारा पुनर्बलित किया जाता है। जब भूमि स्तर से 1.5 से 2 फुट ऊपर तक गड्ढा भर जाता है तो इसके तल को मिट्टी तथा गोबर के मिश्रण की एक इंच मोटी परत द्वारा लीप कर बंद कर दिया जाता है। अब यह बिना और कोई ध्यान दिए ही 3 से 4 माह में तैयार हो जाता है।

कम्पोस्ट गड्ढे में कौन सा रासायनिक उर्वरक मिलाया जाता है?

1. यूरिया
2. सिंगल सुपर फॉस्फेट
3. पोटैशियम म्यूरिएट
4. ड्राई एमोनियम फॉस्फेट

Options :

212807127233. 1
212807127234. 2
212807127235. 3
212807127236. 4

Question Number : 95 Question Id : 21280731810 Question Type : MCQ Option Shuffling : No Is Question Mandatory : No Calculator : None Response Time : N.A Think Time : N.A Minimum Instruction Time : 0

Correct Marks : 5 Wrong Marks : 1

Question Key Details :

Key	Value
Comprehension	Comp1

Read the passage and answer question

Compost is an organic manure prepared from plant residues and animal waste by decomposition. The process of making compost is known as composting. It is largely a biological process in which aerobic (which requires air or oxygen) and anaerobic (which function in the absence of air or free oxygen) microorganisms decompose organic matter and lower the carbon nitrogen ratio of the refuse. In the aerobic process, the mixed farm residues are collected in the pits of convenient size, say 15' x 5' x 3' (350 x 150 x 90 cm). Each day's collection is spread in a thin layer and sprinkled with a mixture of fresh cow dung. Compost manure is reinforced with super phosphate @ 25 kg per ton of manure. When the pit is filled to a height of 1.5 to 2.0 feet (45-60 cm) above ground level the surface is plastered with one inch layer of a mixture of mud and cow dung. The compost becomes ready in about three to four months without any further attention.

How much time is required by compost to become ready to use?

1. One to two months
2. 25 to 35 days
3. 45 to 60 days
4. Three to four months

Options :

212807127237. 1
212807127238. 2
212807127239. 3
212807127240. 4

Question Number : 95 Question Id : 21280731810 Question Type : MCQ Option Shuffling : No Is Question Mandatory : No Calculator : None Response Time : N.A Think Time : N.A Minimum Instruction Time : 0

Correct Marks : 5 Wrong Marks : 1

Question Key Details :

Key	Value
Comprehension	Comp1

निम्नलिखित अनुच्छेद पढ़कर प्रश्नों के उत्तर दें:

कम्पोस्ट एक कार्बनिक खाद है जो पादपों तथा जानवरों के अवशेषों के अपघटन से तैयार किया जाता है। कम्पोस्ट बनाने की प्रक्रिया को कम्पोस्टिंग कहते हैं। अधिकतर यह एक जैविक प्रक्रिया है जिसमें वायवीय (जिसमें वायु या ऑक्सीजन की आवश्यकता होती है) तथा अवायवीय (जो वायु या स्वतंत्र ऑक्सीजन की अनुपस्थिति में कार्य करता है) सूक्ष्मजीवी कार्बनिक पदार्थों को अपघटित करके कचरे के कार्बन तथा नाइट्रोजन अनुपात को कम करते हैं। वायवीय प्रक्रिया में, खेतों से प्राप्त मिश्रित अवशेषों को सुविधाजनक आकार के गड्ढों में एकत्र किया जाता है जैसे 15' × 5' × 3' (350 × 150 × 90 सें.मी)। प्रतिदिन के एकत्रण को एक पतली परत के रूप में फैला कर ताजे गोबर के मिश्रण को इस पर छिड़क दिया जाता है। कम्पोस्ट खाद को 25 कि.ग्रा. प्रति टन खाद के हिसाब से सुपर फॉस्फेट द्वारा पुनर्बलित किया जाता है। जब भूमि स्तर से 1.5 से 2 फुट ऊपर तक गड्ढा भर जाता है तो इसके तल को मिट्टी तथा गोबर के मिश्रण की एक इंच मोटी परत द्वारा लीप कर बंद कर दिया जाता है। अब यह बिना और कोई ध्यान दिए ही 3 से 4 माह में तैयार हो जाता है।

उपयोग करने के लिए तैयार होने में कम्पोस्ट बनने में कितना समय लगता है?

1. एक से दो महीने
2. 25 से 35 दिन
3. 45 से 60 दिन
4. तीन से चार महीने

Options :

212807127237. 1
212807127238. 2
212807127239. 3
212807127240. 4

Sub-Section Number : 3
Sub-Section Id : 2128072486
Question Shuffling Allowed : No
Is Section Default? : null

Question Number : 96 Question Id : 21280731811 Question Type : MCQ Option Shuffling : No Is Question Mandatory : No Calculator : None
Response Time : N.A Think Time : N.A Minimum Instruction Time : 0
Correct Marks : 5 Wrong Marks : 1

Question Key Details :

Key	Value
Comprehension	Comp2

Read the passage carefully, attempt questions.

National Agriculture Co-operative Marketing Federation of India Ltd (NAFED) is an apex organization of marketing co-operatives for agricultural produce in India, under Ministry of Agriculture, Government of India. It was founded on the birthday of Mahatma Gandhi on 2nd October 1958 to promote the trade of agricultural produce and forest resources across the nation. It is registered under Multi State Co-operative Societies Act. NAFED is now one of the largest procurement as well as marketing agencies for agricultural products in India. NAFED is the nodal agency to implement stabilization measures. With its headquarters in New Delhi, NAFED has four regional offices at Delhi, Mumbai, Chennai and Kolkata, apart from 28 zonal offices in capitals of states and important cities.

NAFED is the nodal agency to implement _____ stabilization measures.

1. Price
2. Income
3. Loss
4. Labour

Options :

212807127241. 1
212807127242. 2
212807127243. 3
212807127244. 4

Question Number : 96 Question Id : 21280731811 Question Type : MCQ Option Shuffling : No Is Question Mandatory : No Calculator : None Response Time : N.A Think Time : N.A Minimum Instruction Time : 0

Correct Marks : 5 Wrong Marks : 1

Question Key Details :

Key	Value
Comprehension	Comp2

निम्नलिखित अनुच्छेद पढ़कर प्रश्नों के उत्तर दें:

इंडिया लिमिटेड की राष्ट्रीय कृषि सहकारी विपणन संघ (NAFED) भारत सरकार के कृषि मंत्रालय के अधीन, भारत में कृषि उत्पाद के सहाकीर विपणन की एक शीर्ष संस्था है। यह महात्मा गाँधी के जन्मदिवस 02 अक्टूबर 1958 की कृषि उत्पाद तथा वन्य संसाधनों को पूरे देश भर में प्रोत्साहित करने के लिए स्थापित की गई थी। इसका पंजीकरण बहु राज्य सहकारी समिति अधिनियम के अंतर्गत किया गया था। NAFED अब भारत में कृषि उत्पादों की सबसे बड़ी प्रापण तथा विपणन शाखाओं में से एक है। यह स्थिरीकरण मानदंडों को लागू करने वाली एक केन्द्रक अभिकरण है। इसका मुख्यालय नई दिल्ली में है तथा दिल्ली, मुम्बई, चेन्नई व कोलकाता में इसके चार क्षेत्रीय कार्यालय भी हैं। इसके अतिरिक्त इसके 28 आँचिक कार्यालय विभिन्न राज्यों को राजधानियों तथा महत्वपूर्ण शहरों में भी हैं।

नफेड एक प्रमुख एजेन्सी है जो _____ स्थिरीकरण मानदंडों को क्रियान्वित करने के लिए।

1. मूल्य
2. आय
3. घाटा
4. लेबर

Options :

212807127241. 1
212807127242. 2
212807127243. 3
212807127244. 4

Question Number : 97 Question Id : 21280731812 Question Type : MCQ Option Shuffling : No Is Question Mandatory : No Calculator : None Response Time : N.A Think Time : N.A Minimum Instruction Time : 0

Correct Marks : 5 Wrong Marks : 1

Question Key Details :

Key	Value
Comprehension	Comp2

Read the passage carefully, attempt questions.

National Agriculture Co-operative Marketing Federation of India Ltd (NAFED) is an apex organization of marketing co-operatives for agricultural produce in India, under Ministry of Agriculture, Government of India. It was founded on the birthday of Mahatma Gandhi on 2nd October 1958 to promote the trade of agricultural produce and forest resources across the nation. It is registered under Multi State Co-operative Societies Act. NAFED is now one of the largest procurement as well as marketing agencies for agricultural products in India. NAFED is the nodal agency to implement stabilization measures.

With its headquarters in New Delhi, NAFED has four regional offices at Delhi, Mumbai, Chennai and Kolkata, apart from 28 zonal offices in capitals of states and important cities.

Which of the following is a correct statement related to NAFED?

1. It is an apex organization of marketing co-operatives for agriculture produce
2. It is an apex organization for agriculture education
3. It is an apex organization for agroclimatic education
4. It's headquarter is at Mumbai

Options :

212807127245. 1
212807127246. 2
212807127247. 3
212807127248. 4

Question Number : 97 Question Id : 21280731812 Question Type : MCQ Option Shuffling : No Is Question Mandatory : No Calculator : None Response Time : N.A Think Time : N.A Minimum Instruction Time : 0

Correct Marks : 5 Wrong Marks : 1

Question Key Details :

Key	Value
Comprehension	Comp2

निम्नलिखित अनुच्छेद पढ़कर प्रश्नों के उत्तर दें:

इंडिया लिमिटेड की राष्ट्रीय कृषि सहकारी विपणन संघ (NAFED) भारत सरकार के कृषि मंत्रालय के अधीन, भारत में कृषि उत्पाद के सहकारी विपणन की एक शीर्ष संस्था है। यह महात्मा गाँधी के जन्मदिवस 02 अक्टूबर 1958 की कृषि उत्पाद तथा वन्य संसाधनों को पूरे देश भर में प्रोत्साहित करने के लिए स्थापित की गई थी। इसका पंजीकरण बहु राज्य सहकारी समिति अधिनियम के अंतर्गत किया गया था। NAFED अब भारत में कृषि उत्पादों की सबसे बड़ी प्रापण तथा विपणन शाखाओं में से एक है। यह स्थिरीकरण मापदंडों को लागू करने वाली एक केन्द्रक अभिकरण है। इसका मुख्यालय नई दिल्ली में है तथा दिल्ली, मुम्बई, चेन्नई व कोलकाता में इसके चार क्षेत्रीय कार्यालय भी हैं। इसके अतिरिक्त इसके 28 आंचिक कार्यालय विभिन्न राज्यों को राजधानियों तथा महत्वपूर्ण शहरों में भी हैं।

निम्नलिखित में से कौन सा कथन नफेड के संबंध में सही है?

1. यह एक कृषि उत्पाद विपणन सहकारियों का शीर्षस्थ संगठन है।
2. यह कृषि शिक्षा के लिए शीर्षस्थ संगठन है।
3. यह कृषि जलवायु शिक्षा के लिए शीर्षस्थ संगठन है।
4. इसका मुख्यालय मुम्बई में है।

Options :

212807127245. 1
212807127246. 2
212807127247. 3
212807127248. 4

Question Number : 98 Question Id : 21280731813 Question Type : MCQ Option Shuffling : No Is Question Mandatory : No Calculator : None Response Time : N.A Think Time : N.A Minimum Instruction Time : 0

Correct Marks : 5 Wrong Marks : 1

Question Key Details :

Key	Value
Comprehension	Comp2

Read the passage carefully, attempt questions.

National Agriculture Co-operative Marketing Federation of India Ltd (NAFED) is an apex organization of marketing co-operatives for agricultural produce in India, under Ministry of Agriculture, Government of India. It was founded on the birthday of Mahatma Gandhi on 2nd October 1958 to promote the trade of agricultural produce and forest resources across the nation. It is registered under Multi State Co-operative Societies Act. NAFED is now one of the largest procurement as well as marketing agencies for agricultural products in India. NAFED is the nodal agency to implement stabilization measures.

With its headquarters in New Delhi, NAFED has four regional offices at Delhi, Mumbai, Chennai and Kolkata, apart from 28 zonal offices in capitals of states and important cities.

What is the full form of NAFED ?

1. National Agro Federation
2. National Agriculture Co-operative Marketing Federation
3. National Fish Development Corporation
4. National Agriculture Federation

Options :

212807127249. 1
212807127250. 2
212807127251. 3
212807127252. 4

Question Number : 98 Question Id : 21280731813 Question Type : MCQ Option Shuffling : No Is Question Mandatory : No Calculator : None Response Time : N.A Think Time : N.A Minimum Instruction Time : 0

Correct Marks : 5 Wrong Marks : 1

Question Key Details :

Key	Value
Comprehension	Comp2

निम्नलिखित अनुच्छेद पढ़कर प्रश्नों के उत्तर दें:

इंडिया लिमिटेड की राष्ट्रीय कृषि सहकारी विपणन संघ (NAFED) भारत सरकार के कृषि मंत्रालय के अधीन, भारत में कृषि उत्पाद के सहकारी विपणन की एक शीर्ष संस्था है। यह महात्मा गाँधी के जन्मदिवस 02 अक्टूबर 1958 की कृषि उत्पाद तथा वन्य संसाधनों को पूरे देश भर में प्रोत्साहित करने के लिए स्थापित की गई थी। इसका पंजीकरण बहु राज्य सहकारी समिति अधिनियम के अंतर्गत किया गया था। NAFED अब भारत में कृषि उत्पादों की सबसे बड़ी प्रापण तथा विपणन शाखाओं में से एक है। यह स्थिरीकरण मापदंडों को लागू करने वाली एक केन्द्रक अभिकरण है। इसका मुख्यालय नई दिल्ली में है तथा दिल्ली, मुंबई, चेन्नई व कोलकाता में इसके चार क्षेत्रीय कार्यालय भी हैं। इसके अतिरिक्त इसके 28 आंचिक कार्यालय विभिन्न राज्यों को राजधानियों तथा महत्वपूर्ण शहरों में भी हैं।

नफेड (NAFED) का पूरा नाम क्या है?

1. नेशनल एग्रो फेडरेशन
2. नेशनल एग्रीकल्चरल कोऑपरेटिव मार्केटिंग फेडरेशन
3. नेशनल फिश डेवेलोपमेंट कॉर्पोरेशन
4. नेशनल एग्रीकल्चरल फेडरेशन

Options :

212807127249. 1

212807127250. 2

212807127251. 3

212807127252. 4

Question Number : 99 Question Id : 21280731814 Question Type : MCQ Option Shuffling : No Is Question Mandatory : No Calculator : None Response Time : N.A Think Time : N.A Minimum Instruction Time : 0

Correct Marks : 5 Wrong Marks : 1

Question Key Details :

Key	Value
Comprehension	Comp2

Read the passage carefully, attempt questions.

National Agriculture Co-operative Marketing Federation of India Ltd (NAFED) is an apex organization of marketing co-operatives for agricultural produce in India, under Ministry of Agriculture, Government of India. It was founded on the birthday of Mahatma Gandhi on 2nd October 1958 to promote the trade of agricultural produce and forest resources across the nation. It is registered under Multi State Co-operative Societies Act. NAFED is now one of the largest procurement as well as marketing agencies for agricultural products in India. NAFED is the nodal agency to implement stabilization measures.

With its headquarters in New Delhi, NAFED has four regional offices at Delhi, Mumbai, Chennai and Kolkata, apart from 28 zonal offices in capitals of states and important cities.

NAFED headquarter is in:

1. Chennai
2. Pune
3. Kolkata
4. New Delhi

Options :

212807127253. 1

212807127254. 2

212807127255. 3

212807127256. 4

Question Number : 99 Question Id : 21280731814 Question Type : MCQ Option Shuffling : No Is Question Mandatory : No Calculator : None Response Time : N.A Think Time : N.A Minimum Instruction Time : 0

Correct Marks : 5 Wrong Marks : 1

Question Key Details :

Key	Value
Comprehension	Comp2

निम्नलिखित अनुच्छेद पढ़कर प्रश्नों के उत्तर दें:

इंडिया लिमिटेड की राष्ट्रीय कृषि सहकारी विपणन संघ (NAFED) भारत सरकार के कृषि मंत्रालय के अधीन, भारत में कृषि उत्पाद के सहकारी विपणन की एक शीर्ष संस्था है। यह महात्मा गाँधी के जन्मदिवस 02 अक्टूबर 1958 की कृषि उत्पाद तथा वन्य संसाधनों को पूरे देश भर में प्रोत्साहित करने के लिए स्थापित की गई थी। इसका पंजीकरण बहु राज्य सहकारी समिति अधिनियम के अंतर्गत किया गया था। NAFED अब भारत में कृषि उत्पादों की सबसे बड़ी प्रापण तथा विपणन शाखाओं में से एक है। यह स्थिरीकरण मापदंडों को लागू करने वाली एक केन्द्रक अभिकरण है। इसका मुख्यालय नई दिल्ली में है तथा दिल्ली, मुंबई, चेन्नई व कोलकाता में इसके चार क्षेत्रीय कार्यालय भी हैं। इसके अतिरिक्त इसके 28 आंचिक कार्यालय विभिन्न राज्यों को राजधानियों तथा महत्वपूर्ण शहरों में भी हैं।

नफेड का मुख्यालय स्थित है:

1. चेन्नई
2. पुणे
3. कोलकत्ता
4. नई दिल्ली

Options :

212807127253. 1
212807127254. 2
212807127255. 3
212807127256. 4

Question Number : 100 Question Id : 21280731815 Question Type : MCQ Option Shuffling : No Is Question Mandatory : No Calculator : None Response Time : N.A Think Time : N.A Minimum Instruction Time : 0

Correct Marks : 5 Wrong Marks : 1

Question Key Details :

Key	Value
Comprehension	Comp2

Read the passage carefully, attempt questions.

National Agriculture Co-operative Marketing Federation of India Ltd (NAFED) is an apex organization of marketing co-operatives for agricultural produce in India, under Ministry of Agriculture, Government of India. It was founded on the birthday of Mahatma Gandhi on 2nd October 1958 to promote the trade of agricultural produce and forest resources across the nation. It is registered under Multi State Co-operative Societies Act. NAFED is now one of the largest procurement as well as marketing agencies for agricultural products in India. NAFED is the nodal agency to implement stabilization measures.

With its headquarters in New Delhi, NAFED has four regional offices at Delhi, Mumbai, Chennai and Kolkata, apart from 28 zonal offices in capitals of states and important cities.

When was NAFED founded?

1. 2nd October 1998
2. 2nd October 1960
3. 2nd October 1970
4. 2nd October 1958

Options :

212807127257. 1
212807127258. 2
212807127259. 3
212807127260. 4

Question Number : 100 Question Id : 21280731815 Question Type : MCQ Option Shuffling : No Is Question Mandatory : No Calculator : None Response Time : N.A Think Time : N.A Minimum Instruction Time : 0

Correct Marks : 5 Wrong Marks : 1

Question Key Details :

Key	Value
Comprehension	Comp2

निम्नलिखित अनुच्छेद पढ़कर प्रश्नों के उत्तर दें:

इंडिया लिमिटेड की राष्ट्रीय कृषि सहकारी विपणन संघ (NAFED) भारत सरकार के कृषि मंत्रालय के अधीन, भारत में कृषि उत्पाद के सहकारी विपणन की एक शीर्ष संस्था है। यह महात्मा गाँधी के जन्मदिवस 02 अक्टूबर 1958 की कृषि उत्पाद तथा वन्य संसाधनों को पूरे देश भर में प्रोत्साहित करने के लिए स्थापित की गई थी। इसका पंजीकरण बहु राज्य सहकारी समिति अधिनियम के अंतर्गत किया गया था। NAFED अब भारत में कृषि उत्पादों की सबसे बड़ी प्रापण तथा विपणन शाखाओं में से एक है। यह स्थिरीकरण मापदंडों को लागू करने वाली एक केन्द्रक अभिकरण है। इसका मुख्यालय नई दिल्ली में है तथा दिल्ली, मुंबई, चेन्नई व कोलकाता में इसके चार क्षेत्रीय कार्यालय भी हैं। इसके अतिरिक्त इसके 28 आंचिक कार्यालय विभिन्न राज्यों को राजधानियों तथा महत्वपूर्ण शहरों में भी हैं।

नफेड (NAFED) की स्थापना कब की गई ?

1. 2 अक्टूबर 1998
2. 2 अक्टूबर 1960
3. 2 अक्टूबर 1970
4. 2 अक्टूबर 1958

Options :

212807127257. 1
212807127258. 2
212807127259. 3
212807127260. 4

Anthropology

Group Number :	9
Group Id :	212807733
Group Maximum Duration :	45
Group Minimum Duration :	45
Show Attended Group? :	No
Edit Attended Group? :	No
Break time :	0
Group Marks :	200
Is this Group for Examiner? :	No
Examiner permission :	Cant View
Show Progress Bar? :	No

Anthropology

Section Id :	212807863
Section Number :	1
Section type :	Online
Mandatory or Optional :	Mandatory
Number of Questions :	50
Number of Questions to be attempted :	40
Section Marks :	200
Enable Mark as Answered Mark for Review and Clear Response :	Yes
Maximum Instruction Time :	0
Sub-Section Number :	1
Sub-Section Id :	2128072487
Question Shuffling Allowed :	Yes
Is Section Default? :	null

Question Number : 101 Question Id : 21280731381 Question Type : MCQ Option Shuffling : No Is Question Mandatory : No Calculator : None
Response Time : N.A Think Time : N.A Minimum Instruction Time : 0

Correct Marks : 5 Wrong Marks : 1

Question Key Details :

Key	Value
Comprehension	MCQ

Match List - I with List - II.

List - I

- (A) The Mishing
- (B) The Garo
- (C) The Naga
- (D) The Apatani

List - II

- (I) Shifting cultivation
- (II) Plough cultivation
- (III) Ziro valley
- (IV) Morung

Choose the correct answer from the options given below :

- (1) (A)-(III), (B)-(II), (C)-(I), (D)-(IV)
- (2) (A)-(II), (B)-(I), (C)-(IV), (D)-(III)
- (3) (A)-(I), (B)-(IV), (C)-(III), (D)-(II)
- (4) (A)-(IV), (B)-(III), (C)-(II), (D)-(I)

Options :

- 212807125521. 1
- 212807125522. 2
- 212807125523. 3
- 212807125524. 4

Question Number : 101 Question Id : 21280731381 Question Type : MCQ Option Shuffling : No Is Question Mandatory : No Calculator : None
Response Time : N.A Think Time : N.A Minimum Instruction Time : 0

Correct Marks : 5 Wrong Marks : 1

Question Key Details :

Key	Value
Comprehension	MCQ

सूची-I से सूची-II का मिलान कीजिए:

सूची-I

- (A) मिशिंग
- (B) गारो
- (C) नागा
- (D) अपतानी

सूची-II

- (I) स्थानांतरण खेती
- (II) जुताई वाली कृषि
- (III) शून्य घाटी
- (IV) मोरंग

नीचे दिए गए विकल्पों में से सही उत्तर का चयन कीजिए :

- (1) (A)-(III), (B)-(II), (C)-(I), (D)-(IV)
- (2) (A)-(II), (B)-(I), (C)-(IV), (D)-(III)
- (3) (A)-(I), (B)-(IV), (C)-(III), (D)-(II)
- (4) (A)-(IV), (B)-(III), (C)-(II), (D)-(I)

Options :

- 212807125521. 1
- 212807125522. 2
- 212807125523. 3
- 212807125524. 4

Question Number : 102 Question Id : 21280731382 Question Type : MCQ Option Shuffling : No Is Question Mandatory : No Calculator : None
Response Time : N.A Think Time : N.A Minimum Instruction Time : 0

Correct Marks : 5 Wrong Marks : 1

Question Key Details :

Key	Value
Comprehension	MCQ

Which of the following state is called 'The land of Festivals' ?

- (1) Assam
- (2) Meghalaya
- (3) Nagaland
- (4) Manipur

Options :

212807125525. 1
212807125526. 2
212807125527. 3
212807125528. 4

Question Number : 102 Question Id : 21280731382 Question Type : MCQ Option Shuffling : No Is Question Mandatory : No Calculator : None
Response Time : N.A Think Time : N.A Minimum Instruction Time : 0

Correct Marks : 5 Wrong Marks : 1

Question Key Details :

Key	Value
Comprehension	MCQ

'त्योहारों का प्रदेश' किस राज्य को कहा जाता है ?

- (1) असम
- (2) मेघालय
- (3) नागालैंड
- (4) मणिपुर

Options :

212807125525. 1
212807125526. 2
212807125527. 3
212807125528. 4

Question Number : 103 Question Id : 21280731383 Question Type : MCQ Option Shuffling : No Is Question Mandatory : No Calculator : None
Response Time : N.A Think Time : N.A Minimum Instruction Time : 0

Correct Marks : 5 Wrong Marks : 1

Question Key Details :

Key	Value
Comprehension	MCQ

'Wangala' is the main festival of :

- (1) Ao
- (2) Angami
- (3) Garo
- (4) Khamniungam

Options :

212807125529. 1
212807125530. 2
212807125531. 3
212807125532. 4

Question Number : 103 Question Id : 21280731383 Question Type : MCQ Option Shuffling : No Is Question Mandatory : No Calculator : None
Response Time : N.A Think Time : N.A Minimum Instruction Time : 0

Correct Marks : 5 Wrong Marks : 1

Question Key Details :

Key	Value
Comprehension	MCQ

‘बंगाला मुख्य त्योहार’ है:

- (1) एओ
- (2) अंगानि
- (3) गारो
- (4) खिमनिउंगन

Options :

212807125529. 1
212807125530. 2
212807125531. 3
212807125532. 4

Question Number : 104 Question Id : 21280731384 Question Type : MCQ Option Shuffling : No Is Question Mandatory : No Calculator : None
Response Time : N.A Think Time : N.A Minimum Instruction Time : 0

Correct Marks : 5 Wrong Marks : 1

Question Key Details :

Key	Value
Comprehension	MCQ

The principle which is central to the concept of family is :

- (1) Kinship
- (2) Marriage
- (3) Residence
- (4) Eating together

Options :

212807125533. 1
212807125534. 2
212807125535. 3
212807125536. 4

Question Number : 104 Question Id : 21280731384 Question Type : MCQ Option Shuffling : No Is Question Mandatory : No Calculator : None
Response Time : N.A Think Time : N.A Minimum Instruction Time : 0

Correct Marks : 5 Wrong Marks : 1

Question Key Details :

Key	Value
Comprehension	MCQ

वह सिद्धांत जो परिवार की अवधारणा का मुख्य बिंदु है ?

- (1) रिश्तेदारी
- (2) शादी
- (3) आवास
- (4) एक साथ खाना

Options :

212807125533. 1
212807125534. 2
212807125535. 3
212807125536. 4

Question Number : 105 Question Id : 21280731385 Question Type : MCQ Option Shuffling : No Is Question Mandatory : No Calculator : None
Response Time : N.A Think Time : N.A Minimum Instruction Time : 0

Correct Marks : 5 Wrong Marks : 1

Question Key Details :

Key	Value
-----	-------

Which of the following is **not** a characteristic of a household ?

- (1) Number of members does not remain constant
- (2) Every member support themselves financially
- (3) They share the same housing and food
- (4) Shared responsibility

Options :

212807125537. 1
212807125538. 2
212807125539. 3
212807125540. 4

Question Number : 105 Question Id : 21280731385 Question Type : MCQ Option Shuffling : No Is Question Mandatory : No Calculator : None
Response Time : N.A Think Time : N.A Minimum Instruction Time : 0

Correct Marks : 5 Wrong Marks : 1

Question Key Details :

Key	Value
Comprehension	MCQ

इनमें से क्या निवास की विशेषता नहीं है ?

- (1) सदस्यों की संख्या घटती-बढ़ती रहती है।
- (2) सभी सदस्यों खुद को अर्थिक तौर पर सहायता करते हैं।
- (3) वे सभी एक ही आवास एवं भोजन साझा करते हैं।
- (4) जिम्मेदारियां साझा करते हैं।

Options :

212807125537. 1
212807125538. 2
212807125539. 3
212807125540. 4

Question Number : 106 Question Id : 21280731386 Question Type : MCQ Option Shuffling : No Is Question Mandatory : No Calculator : None
Response Time : N.A Think Time : N.A Minimum Instruction Time : 0

Correct Marks : 5 Wrong Marks : 1

Question Key Details :

Key	Value
Comprehension	MCQ

According to the rule of _____, the couple lives for a time with the bride's parents, then goes to live permanently with groom's parents.

- (1) Patrilocal residence
- (2) Matri-Patri local residence
- (3) Bilateral residence
- (4) Double residence

Options :

212807125541. 1
212807125542. 2
212807125543. 3
212807125544. 4

Question Number : 106 Question Id : 21280731386 Question Type : MCQ Option Shuffling : No Is Question Mandatory : No Calculator : None
Response Time : N.A Think Time : N.A Minimum Instruction Time : 0

Correct Marks : 5 Wrong Marks : 1

Question Key Details :

Key	Value
Comprehension	MCQ

_____ के नियम के अनुसार, एक शादी-शुदा जोड़ा कुछ समय के लिए पत्नी के परिवार के साथ रहते हैं फिर स्थायी रूप से पति के परिवार के साथ रहने चले जाते हैं।

- (1) पितृस्थान निवास
- (2) मातृ-पितृस्थान निवास
- (3) द्विपक्षीय निवास
- (4) दोहरा निवास

Options :

212807125541. 1
212807125542. 2
212807125543. 3
212807125544. 4

Question Number : 107 Question Id : 21280731387 Question Type : MCQ Option Shuffling : No Is Question Mandatory : No Calculator : None
Response Time : N.A Think Time : N.A Minimum Instruction Time : 0

Correct Marks : 5 Wrong Marks : 1

Question Key Details :

Key	Value
Comprehension	MCQ

Matrilocal Families are found among :

- (1) Santhals
- (2) Jaintias
- (3) Kharias
- (4) Kukis

Options :

212807125545. 1
212807125546. 2
212807125547. 3
212807125548. 4

Question Number : 107 Question Id : 21280731387 Question Type : MCQ Option Shuffling : No Is Question Mandatory : No Calculator : None
Response Time : N.A Think Time : N.A Minimum Instruction Time : 0

Correct Marks : 5 Wrong Marks : 1

Question Key Details :

Key	Value
Comprehension	MCQ

मातृ-स्थानीय परिवार प्रायः पाए जाते हैं :

- (1) संथाल
- (2) जयंतिया
- (3) खारिया
- (4) कुकी

Options :

212807125545. 1
212807125546. 2
212807125547. 3
212807125548. 4

Question Number : 108 Question Id : 21280731388 Question Type : MCQ Option Shuffling : No Is Question Mandatory : No Calculator : None
Response Time : N.A Think Time : N.A Minimum Instruction Time : 0

Correct Marks : 5 Wrong Marks : 1

Question Key Details :

Key	Value
-----	-------

The members of descent group are united by :

- (1) Blood tie
- (2) Marriage tie
- (3) Affinal tie
- (4) Friendship tie

Options :

212807125549. 1
212807125550. 2
212807125551. 3
212807125552. 4

Question Number : 108 Question Id : 21280731388 Question Type : MCQ Option Shuffling : No Is Question Mandatory : No Calculator : None
Response Time : N.A Think Time : N.A Minimum Instruction Time : 0

Correct Marks : 5 Wrong Marks : 1

Question Key Details :

Key	Value
Comprehension	MCQ

वंश समूह के लोग आपस में जुड़े होते हैं :

- (1) खून के रिश्ते से
- (2) शादी के बंधन से
- (3) वैवाहिक संबंध
- (4) दोस्ती के संबंध से

Options :

212807125549. 1
212807125550. 2
212807125551. 3
212807125552. 4

Question Number : 109 Question Id : 21280731389 Question Type : MCQ Option Shuffling : No Is Question Mandatory : No Calculator : None
Response Time : N.A Think Time : N.A Minimum Instruction Time : 0

Correct Marks : 5 Wrong Marks : 1

Question Key Details :

Key	Value
Comprehension	MCQ

Nuclear family refers to :

- (1) Married couple and their married children.
- (2) Married couple and their unmarried children.
- (3) Only husband and wife.
- (4) Entire family including children their parents and grand parents.

Options :

212807125553. 1
212807125554. 2
212807125555. 3
212807125556. 4

Question Number : 109 Question Id : 21280731389 Question Type : MCQ Option Shuffling : No Is Question Mandatory : No Calculator : None
Response Time : N.A Think Time : N.A Minimum Instruction Time : 0

Correct Marks : 5 Wrong Marks : 1

Question Key Details :

Key	Value
Comprehension	MCQ

एकल परिवार का अर्थ है :

- (1) विवाहित जोड़ा एवं उनके विवाहित संतान
- (2) विवाहित जोड़ा एवं उनके अविवाहित संतान
- (3) केवल पति एवं पत्नी
- (4) संतान उनके माता-पिता एवं उनके दादा-दादी सहित पूरा परिवार

Options :

212807125553. 1
212807125554. 2
212807125555. 3
212807125556. 4

Question Number : 110 Question Id : 21280731390 Question Type : MCQ Option Shuffling : No Is Question Mandatory : No Calculator : None
Response Time : N.A Think Time : N.A Minimum Instruction Time : 0

Correct Marks : 5 Wrong Marks : 1

Question Key Details :

Key	Value
Comprehension	MCQ

Who classified the function of family into essential and non-essential ?

- (1) Maclver
- (2) Ginsberg
- (3) Lundberg
- (4) Durkheim

Options :

212807125557. 1
212807125558. 2
212807125559. 3
212807125560. 4

Question Number : 110 Question Id : 21280731390 Question Type : MCQ Option Shuffling : No Is Question Mandatory : No Calculator : None
Response Time : N.A Think Time : N.A Minimum Instruction Time : 0

Correct Marks : 5 Wrong Marks : 1

Question Key Details :

Key	Value
Comprehension	MCQ

आवश्यक एवं अनावश्यक के रूप में परिवार का कार्य किसने वर्गीकृत किया है ?

- (1) मैक्लवर
- (2) गिन्सबर्ग
- (3) लुंडबर्ग
- (4) दुर्खिम

Options :

212807125557. 1
212807125558. 2
212807125559. 3
212807125560. 4

Question Number : 111 Question Id : 21280731391 Question Type : MCQ Option Shuffling : No Is Question Mandatory : No Calculator : None
Response Time : N.A Think Time : N.A Minimum Instruction Time : 0

Correct Marks : 5 Wrong Marks : 1

Question Key Details :

Key	Value
Comprehension	MCQ

Terrace cultivation is mainly practised among the states of :

- (A) Uttarakhand, Sikkim and Mizoram
- (B) Jharkhand and Odisha
- (C) Arunachal Pradesh and Nagaland
- (D) Tamilnadu

Choose the correct answer from the options given below :

- (1) (A), (C), (D) only
- (2) (B), (D) only
- (3) (A), (B) only
- (4) (A), (D) only

Options :

- 212807125561. 1
- 212807125562. 2
- 212807125563. 3
- 212807125564. 4

Question Number : 111 Question Id : 21280731391 Question Type : MCQ Option Shuffling : No Is Question Mandatory : No Calculator : None
Response Time : N.A Think Time : N.A Minimum Instruction Time : 0

Correct Marks : 5 Wrong Marks : 1

Question Key Details :

Key	Value
Comprehension	MCQ

वेदिका खेती मुख्य तौर पर अधिकांशतः इन राज्यों में की जाती है:

- (A) उत्तराखंड, सिक्किम एवं मिजोरम
- (B) झारखंड एवं उड़ीशा
- (C) अरुणाचल प्रदेश एवं नागालैंड
- (D) तमिलनाडु

नीचे दिए गए विकल्पों में से सही उत्तर का चयन कीजिए :

- (1) केवल (A), (C), (D)
- (2) केवल (B), (D)
- (3) केवल (A), (B)
- (4) केवल (A), (D)

Options :

- 212807125561. 1
- 212807125562. 2
- 212807125563. 3
- 212807125564. 4

Question Number : 112 Question Id : 21280731392 Question Type : MCQ Option Shuffling : No Is Question Mandatory : No Calculator : None
Response Time : N.A Think Time : N.A Minimum Instruction Time : 0

Correct Marks : 5 Wrong Marks : 1

Question Key Details :

Key	Value
Comprehension	MCQ

Among the following, which are the *Trapping tools* used for fishing ?

- (1) Spear, Harpoon and Arrow
- (2) Catapult and Sling Dao
- (3) Club, Bolt and Bansi
- (4) Gungi, Paron and Polo

Options :

212807125565. 1
212807125566. 2
212807125567. 3
212807125568. 4

Question Number : 112 Question Id : 21280731392 Question Type : MCQ Option Shuffling : No Is Question Mandatory : No Calculator : None
Response Time : N.A Think Time : N.A Minimum Instruction Time : 0

Correct Marks : 5 Wrong Marks : 1

Question Key Details :

Key	Value
Comprehension	MCQ

इनमें से कौन-सा मछली पकड़ने के लिए ट्रेपिंग उपकरण के रूप में इस्तेमाल किया जाता है।

- (1) भाला, बर्दी, तीर
- (2) गुलेल एवं स्लीग डाओ
- (3) क्लब, बॉल्ट एवं बंसी
- (4) गुंजी, परोन एवं पोलो

Options :

212807125565. 1
212807125566. 2
212807125567. 3
212807125568. 4

Question Number : 113 Question Id : 21280731393 Question Type : MCQ Option Shuffling : No Is Question Mandatory : No Calculator : None
Response Time : N.A Think Time : N.A Minimum Instruction Time : 0

Correct Marks : 5 Wrong Marks : 1

Question Key Details :

Key	Value
Comprehension	MCQ

Land and cattle wealth are considered to be :

- (1) Family property
- (2) Village property
- (3) Ancestor's property
- (4) Eldest son's property

Options :

212807125569. 1
212807125570. 2
212807125571. 3
212807125572. 4

Question Number : 113 Question Id : 21280731393 Question Type : MCQ Option Shuffling : No Is Question Mandatory : No Calculator : None
Response Time : N.A Think Time : N.A Minimum Instruction Time : 0

Correct Marks : 5 Wrong Marks : 1

Question Key Details :

Key	Value
Comprehension	MCQ

भूमि एवं मवेशी धन को समझा जाता है :

- (1) परिवार की संपत्ति
- (2) गाँव की संपत्ति
- (3) पूर्वजों की संपत्ति
- (4) सबसे बड़े बेटे की संपत्ति

Options :

212807125569. 1
212807125570. 2
212807125571. 3
212807125572. 4

Question Number : 114 Question Id : 21280731394 Question Type : MCQ Option Shuffling : No Is Question Mandatory : No Calculator : None
Response Time : N.A Think Time : N.A Minimum Instruction Time : 0

Correct Marks : 5 Wrong Marks : 1

Question Key Details :

Key	Value
Comprehension	MCQ

'Monpa' pastoral community are from the state of :

- (1) Gujarat
- (2) Jharkhand
- (3) Arunachal Pradesh
- (4) Karnataka

Options :

212807125573. 1
212807125574. 2
212807125575. 3
212807125576. 4

Question Number : 114 Question Id : 21280731394 Question Type : MCQ Option Shuffling : No Is Question Mandatory : No Calculator : None
Response Time : N.A Think Time : N.A Minimum Instruction Time : 0

Correct Marks : 5 Wrong Marks : 1

Question Key Details :

Key	Value
Comprehension	MCQ

'मोनपा' चारागाह समुदाय किस राज्य से है :

- (1) गुजरात
- (2) झारखंड
- (3) अरुणाचल प्रदेश
- (4) कर्नाटक

Options :

212807125573. 1
212807125574. 2
212807125575. 3
212807125576. 4

Question Number : 115 Question Id : 21280731395 Question Type : MCQ Option Shuffling : No Is Question Mandatory : No Calculator : None
Response Time : N.A Think Time : N.A Minimum Instruction Time : 0

Correct Marks : 5 Wrong Marks : 1

Question Key Details :

Key	Value
Comprehension	MCQ

Which among the following is not a food gathering tribe ?

- (1) Chenchus
- (2) Cholanaikkan
- (3) Raikas
- (4) Birhor

Options :

212807125577. 1
212807125578. 2
212807125579. 3
212807125580. 4

Question Number : 115 Question Id : 21280731395 Question Type : MCQ Option Shuffling : No Is Question Mandatory : No Calculator : None
Response Time : N.A Think Time : N.A Minimum Instruction Time : 0

Correct Marks : 5 Wrong Marks : 1

Question Key Details :

Key	Value
Comprehension	MCQ

इनमें से कौन-सा एक भोजन-संग्राहक जनजाति नहीं है ?

- (1) चेंचुस
- (2) चोलानाइक्कान
- (3) राइकास
- (4) बिरहोर

Options :

212807125577. 1
212807125578. 2
212807125579. 3
212807125580. 4

Question Number : 116 Question Id : 21280731396 Question Type : MCQ Option Shuffling : No Is Question Mandatory : No Calculator : None
Response Time : N.A Think Time : N.A Minimum Instruction Time : 0

Correct Marks : 5 Wrong Marks : 1

Question Key Details :

Key	Value
Comprehension	MCQ

Bhotiyas are the :

- (1) Cattle herders of Rajasthan
- (2) Pastoral community of Africa
- (3) Shepherd community of Maharashtra
- (4) Pastoral community of Himalayas

Options :

212807125581. 1
212807125582. 2
212807125583. 3
212807125584. 4

Question Number : 116 Question Id : 21280731396 Question Type : MCQ Option Shuffling : No Is Question Mandatory : No Calculator : None
Response Time : N.A Think Time : N.A Minimum Instruction Time : 0

Correct Marks : 5 Wrong Marks : 1

Question Key Details :

Key	Value
Comprehension	MCQ

भोटिया है :

- (1) राजस्थान के पशुपालक
- (2) अफ्रीका के चारागाह समुदाय
- (3) महाराष्ट्र के गड़ेरिया समुदाय
- (4) हिमालय के चारागाह समुदाय

Options :

212807125581. 1
212807125582. 2
212807125583. 3
212807125584. 4

Question Number : 117 Question Id : 21280731397 Question Type : MCQ Option Shuffling : No Is Question Mandatory : No Calculator : None
Response Time : N.A Think Time : N.A Minimum Instruction Time : 0

Correct Marks : 5 Wrong Marks : 1

Question Key Details :

Key	Value
Comprehension	MCQ

What is the first animal domesticated by humans ?

- (1) Cow
- (2) Dog
- (3) Buffalo
- (4) Pigs

Options :

212807125585. 1
212807125586. 2
212807125587. 3
212807125588. 4

Question Number : 117 Question Id : 21280731397 Question Type : MCQ Option Shuffling : No Is Question Mandatory : No Calculator : None
Response Time : N.A Think Time : N.A Minimum Instruction Time : 0

Correct Marks : 5 Wrong Marks : 1

Question Key Details :

Key	Value
Comprehension	MCQ

मनुष्य द्वारा सबसे पहले कौन सा जानवर पाला गया था।

- (1) गाय
- (2) कुत्ता
- (3) भैंस
- (4) सुअर

Options :

212807125585. 1
212807125586. 2
212807125587. 3
212807125588. 4

Question Number : 118 Question Id : 21280731398 Question Type : MCQ Option Shuffling : No Is Question Mandatory : No Calculator : None
Response Time : N.A Think Time : N.A Minimum Instruction Time : 0

Correct Marks : 5 Wrong Marks : 1

Question Key Details :

Key	Value
Comprehension	MCQ

Match List - I with List - II.

List - I

- (A) Chipko movement
(B) Silent valley
(C) Narmada Bachao Andolan
(D) Appiko movement

List - II

- (I) Madhya Pradesh
(II) Karnataka
(III) Kerala
(IV) Uttarakhand

Choose the correct answer from the options given below :

- (1) (A)-(IV), (B)-(III), (C)-(I), (D)-(II)
(2) (A)-(II), (B)-(I), (C)-(III), (D)-(IV)
(3) (A)-(III), (B)-(IV), (C)-(II), (D)-(I)
(4) (A)-(I), (B)-(II), (C)-(IV), (D)-(III)

Options :

212807125589. 1
212807125590. 2
212807125591. 3
212807125592. 4

Question Number : 118 Question Id : 21280731398 Question Type : MCQ Option Shuffling : No Is Question Mandatory : No Calculator : None Response Time : N.A Think Time : N.A Minimum Instruction Time : 0

Correct Marks : 5 Wrong Marks : 1

Question Key Details :

Key	Value
Comprehension	MCQ

सूची-I से सूची-II का मिलान कीजिए:

सूची-I

- (A) चिपको आंदोलन
(B) शांत घाटी
(C) नर्मदा बचाओ आंदोलन
(D) एपिको आंदोलन

सूची-II

- (I) मध्य प्रदेश
(II) कर्नाटक
(III) केरल
(IV) उत्तराखंड

नीचे दिए गए विकल्पों में से सही उत्तर का चयन कीजिए :

- (1) (A)-(IV), (B)-(III), (C)-(I), (D)-(II)
(2) (A)-(II), (B)-(I), (C)-(III), (D)-(IV)
(3) (A)-(III), (B)-(IV), (C)-(II), (D)-(I)
(4) (A)-(I), (B)-(II), (C)-(IV), (D)-(III)

Options :

212807125589. 1
212807125590. 2
212807125591. 3
212807125592. 4

Question Number : 119 Question Id : 21280731399 Question Type : MCQ Option Shuffling : No Is Question Mandatory : No Calculator : None Response Time : N.A Think Time : N.A Minimum Instruction Time : 0

Correct Marks : 5 Wrong Marks : 1

Question Key Details :

Key	Value
Comprehension	MCQ

What is health effect of excess fluoride in drinking water ?

- (1) Toothaches
- (2) Fluorosis
- (3) Lung disease
- (4) Intestinal infection

Options :

212807125593. 1
212807125594. 2
212807125595. 3
212807125596. 4

Question Number : 119 Question Id : 21280731399 Question Type : MCQ Option Shuffling : No Is Question Mandatory : No Calculator : None
Response Time : N.A Think Time : N.A Minimum Instruction Time : 0

Correct Marks : 5 Wrong Marks : 1

Question Key Details :

Key	Value
Comprehension	MCQ

पेय जल में अत्यधिक फ्लोराइड का स्वास्थ्य पर क्या प्रभाव पड़ेगा।

- (1) दांत दर्द
- (2) फ्लुरोसिस
- (3) फेफड़े संबंधित रोग
- (4) आंतों का संक्रमण

Options :

212807125593. 1
212807125594. 2
212807125595. 3
212807125596. 4

Question Number : 120 Question Id : 21280731400 Question Type : MCQ Option Shuffling : No Is Question Mandatory : No Calculator : None
Response Time : N.A Think Time : N.A Minimum Instruction Time : 0

Correct Marks : 5 Wrong Marks : 1

Question Key Details :

Key	Value
Comprehension	MCQ

Which of the following requires maximum energy ?

- (1) Secondary consumer
- (2) Decomposer
- (3) Primary consumer
- (4) Primary producer

Options :

212807125597. 1
212807125598. 2
212807125599. 3
212807125600. 4

Question Number : 120 Question Id : 21280731400 Question Type : MCQ Option Shuffling : No Is Question Mandatory : No Calculator : None
Response Time : N.A Think Time : N.A Minimum Instruction Time : 0

Correct Marks : 5 Wrong Marks : 1

Question Key Details :

Key	Value
Comprehension	MCQ

इनमें से किसको सर्वाधिक ऊर्जा की आवश्यकता होगी :

- (1) द्वितीयक उपभोक्ता
- (2) जैव अपघटक
- (3) प्राथमिक उपभोक्ता
- (4) प्राथमिक उत्पादक

Options :

212807125597. 1
212807125598. 2
212807125599. 3
212807125600. 4

Question Number : 121 Question Id : 21280731401 Question Type : MCQ Option Shuffling : No Is Question Mandatory : No Calculator : None
Response Time : N.A Think Time : N.A Minimum Instruction Time : 0

Correct Marks : 5 Wrong Marks : 1

Question Key Details :

Key	Value
Comprehension	MCQ

The Environment (Protection) Act of India was passed in the year :

- (1) 1984
- (2) 1985
- (3) 1986
- (4) 1988

Options :

212807125601. 1
212807125602. 2
212807125603. 3
212807125604. 4

Question Number : 121 Question Id : 21280731401 Question Type : MCQ Option Shuffling : No Is Question Mandatory : No Calculator : None
Response Time : N.A Think Time : N.A Minimum Instruction Time : 0

Correct Marks : 5 Wrong Marks : 1

Question Key Details :

Key	Value
Comprehension	MCQ

पर्यावरण (संरक्षण) अधिनियम किस वर्ष पारित हुआ था :

- (1) 1984
- (2) 1985
- (3) 1986
- (4) 1988

Options :

212807125601. 1
212807125602. 2
212807125603. 3
212807125604. 4

Question Number : 122 Question Id : 21280731402 Question Type : MCQ Option Shuffling : No Is Question Mandatory : No Calculator : None
Response Time : N.A Think Time : N.A Minimum Instruction Time : 0

Correct Marks : 5 Wrong Marks : 1

Question Key Details :

Key	Value
Comprehension	MCQ

Which of the following can be recycled many times ?

- (1) Wood
- (2) Plastic
- (3) Aluminium
- (4) Organic materials

Options :

212807125605. 1
212807125606. 2
212807125607. 3
212807125608. 4

Question Number : 122 Question Id : 21280731402 Question Type : MCQ Option Shuffling : No Is Question Mandatory : No Calculator : None
Response Time : N.A Think Time : N.A Minimum Instruction Time : 0

Correct Marks : 5 Wrong Marks : 1

Question Key Details :

Key	Value
Comprehension	MCQ

इनमें से किसका पुनर्नवीनीकरण बार-बार किया जा सकता है ?

- (1) लकड़ी
- (2) प्लास्टिक
- (3) एल्युमिनियम
- (4) जैव पदार्थ

Options :

212807125605. 1
212807125606. 2
212807125607. 3
212807125608. 4

Question Number : 123 Question Id : 21280731403 Question Type : MCQ Option Shuffling : No Is Question Mandatory : No Calculator : None
Response Time : N.A Think Time : N.A Minimum Instruction Time : 0

Correct Marks : 5 Wrong Marks : 1

Question Key Details :

Key	Value
Comprehension	MCQ

_____ is an example of an Ex-situ conservation.

- (1) Sacred groves
- (2) Wildlife sanctuary
- (3) Seed Bank
- (4) National Bank

Options :

212807125609. 1
212807125610. 2
212807125611. 3
212807125612. 4

Question Number : 123 Question Id : 21280731403 Question Type : MCQ Option Shuffling : No Is Question Mandatory : No Calculator : None
Response Time : N.A Think Time : N.A Minimum Instruction Time : 0

Correct Marks : 5 Wrong Marks : 1

Question Key Details :

Key	Value
Comprehension	MCQ

एक पर स्थाने संरक्षण का उदाहरण है।

- (1) पवित्र उपवन
- (2) वन्यजीव अभ्यारण्य
- (3) बीज बैंक
- (4) राष्ट्रीय बैंक

Options :

212807125609. 1
212807125610. 2
212807125611. 3
212807125612. 4

Question Number : 124 Question Id : 21280731404 Question Type : MCQ Option Shuffling : No Is Question Mandatory : No Calculator : None
Response Time : N.A Think Time : N.A Minimum Instruction Time : 0

Correct Marks : 5 Wrong Marks : 1

Question Key Details :

Key	Value
Comprehension	MCQ

Arrange the following evolutionary theories in chronological order.

- (A) Neo-Darwinism
- (B) Darwinism
- (C) Lamarckism
- (D) Synthetic theory of evolution
- (E) Neo-Lamarckism

Choose the correct answer from the options given below :

- (1) (C), (B), (A), (D), (E)
- (2) (B), (A), (C), (E), (D)
- (3) (C), (E), (A), (D), (B)
- (4) (A), (C), (B), (E), (D)

Options :

212807125613. 1
212807125614. 2
212807125615. 3
212807125616. 4

Question Number : 124 Question Id : 21280731404 Question Type : MCQ Option Shuffling : No Is Question Mandatory : No Calculator : None
Response Time : N.A Think Time : N.A Minimum Instruction Time : 0

Correct Marks : 5 Wrong Marks : 1

Question Key Details :

Key	Value
Comprehension	MCQ

निम्न विकासवाद सिद्धांतों को कालानुक्रम में लगाएँ।

- (A) नव-डार्विनवाद
- (B) डार्विनवाद
- (C) लैमार्कवाद
- (D) विकासवाद संश्लेषित सिद्धांत
- (E) नव-लैमार्कवाद

नीचे दिए गए विकल्पों में से सही उत्तर का चयन कीजिए :

- (1) (C), (B), (A), (D), (E)
- (2) (B), (A), (C), (E), (D)
- (3) (C), (E), (A), (D), (B)
- (4) (A), (C), (B), (E), (D)

Options :

- 212807125613. 1
- 212807125614. 2
- 212807125615. 3
- 212807125616. 4

Question Number : 125 Question Id : 21280731405 Question Type : MCQ Option Shuffling : No Is Question Mandatory : No Calculator : None Response Time : N.A Think Time : N.A Minimum Instruction Time : 0

Correct Marks : 5 Wrong Marks : 1

Question Key Details :

Key	Value
Comprehension	MCQ

Match List - I with List - II.

List - I

- (A) Mongoloid
- (B) Negroid
- (C) Caucasoid
- (D) Australoid

List - II

- (I) Frizzly hair
- (II) Blue Eyes
- (III) Yellow skin
- (IV) Dolichocephalic

Choose the correct answer from the options given below :

- (1) (A)-(III), (B)-(I), (C)-(II), (D)-(IV)
- (2) (A)-(II), (B)-(IV), (C)-(III), (D)-(I)
- (3) (A)-(IV), (B)-(III), (C)-(I), (D)-(II)
- (4) (A)-(I), (B)-(II), (C)-(IV), (D)-(III)

Options :

- 212807125617. 1
- 212807125618. 2
- 212807125619. 3
- 212807125620. 4

Question Number : 125 Question Id : 21280731405 Question Type : MCQ Option Shuffling : No Is Question Mandatory : No Calculator : None Response Time : N.A Think Time : N.A Minimum Instruction Time : 0

Correct Marks : 5 Wrong Marks : 1

Question Key Details :

Key	Value
Comprehension	MCQ

सूची-I से सूची-II का मिलान कीजिए:

सूची-I

- (A) मंगोलइड
- (B) नेग्रोइड
- (C) कॉकेशॉयड
- (D) ऑस्ट्रेलियाड

सूची-II

- (I) घुंघराले बाल
- (II) नीले आंख
- (III) पीली त्वचा
- (IV) डोलिकोसेफेलिक

नीचे दिए गए विकल्पों में से सही उत्तर का चयन कीजिए :

- (1) (A)-(III), (B)-(I), (C)-(II), (D)-(IV)
- (2) (A)-(II), (B)-(IV), (C)-(III), (D)-(I)
- (3) (A)-(IV), (B)-(III), (C)-(I), (D)-(II)
- (4) (A)-(I), (B)-(II), (C)-(IV), (D)-(III)

Options :

- 212807125617. 1
- 212807125618. 2
- 212807125619. 3
- 212807125620. 4

Question Number : 126 Question Id : 21280731406 Question Type : MCQ Option Shuffling : No Is Question Mandatory : No Calculator : None Response Time : N.A Think Time : N.A Minimum Instruction Time : 0

Correct Marks : 5 Wrong Marks : 1

Question Key Details :

Key	Value
Comprehension	MCQ

Which of the following disease belong to Autosomal recessive Mendelian disorder ?

- (1) Haemophilia
- (2) Colour Blindness
- (3) Sickle cell Anaemia
- (4) Vitamin D resistant Rickets

Options :

- 212807125621. 1
- 212807125622. 2
- 212807125623. 3
- 212807125624. 4

Question Number : 126 Question Id : 21280731406 Question Type : MCQ Option Shuffling : No Is Question Mandatory : No Calculator : None Response Time : N.A Think Time : N.A Minimum Instruction Time : 0

Correct Marks : 5 Wrong Marks : 1

Question Key Details :

Key	Value
Comprehension	MCQ

इनमें से कौन-सा रोग ऑटोसोमल रिसेसिव (अलिंग सूत्री अप्रभावी) मेडेलियन विकार से संबंधित है।

- (1) हीमोफीलिया
- (2) रतौंधी
- (3) सिकल सेल एनीमिया
- (4) विटामिन डी प्रतिरोधी रिकेट्स

Options :

- 212807125621. 1

212807125622. 2
212807125623. 3
212807125624. 4

Question Number : 127 Question Id : 21280731407 Question Type : MCQ Option Shuffling : No Is Question Mandatory : No Calculator : None
Response Time : N.A Think Time : N.A Minimum Instruction Time : 0

Correct Marks : 5 Wrong Marks : 1

Question Key Details :

Key	Value
Comprehension	MCQ

Who among the following has defined race as a concept of population ?

- (1) A.Montague
- (2) Dobzhansky
- (3) Templeton
- (4) Hooton

Options :

212807125625. 1
212807125626. 2
212807125627. 3
212807125628. 4

Question Number : 127 Question Id : 21280731407 Question Type : MCQ Option Shuffling : No Is Question Mandatory : No Calculator : None
Response Time : N.A Think Time : N.A Minimum Instruction Time : 0

Correct Marks : 5 Wrong Marks : 1

Question Key Details :

Key	Value
Comprehension	MCQ

इनमें से किंहींने जाति को जनसंख्या के अवधारणा के रूप में परिभाषित किया है।

- (1) ए.मॉन्टेग
- (2) डॉबज़ैन्सकी
- (3) टेम्पलटन
- (4) हूटन

Options :

212807125625. 1
212807125626. 2
212807125627. 3
212807125628. 4

Question Number : 128 Question Id : 21280731408 Question Type : MCQ Option Shuffling : No Is Question Mandatory : No Calculator : None
Response Time : N.A Think Time : N.A Minimum Instruction Time : 0

Correct Marks : 5 Wrong Marks : 1

Question Key Details :

Key	Value
Comprehension	MCQ

Match List - I with List - II.

List - I (Site)	List - II (River)
(A) Harappa	(I) Ghaggar
(B) Mohanjodaro	(II) Luni
(C) Rakhigarhi	(III) Indus
(D) Dholavira	(IV) Ravi

Choose the correct answer from the options given below :

- (1) (A)-(III), (B)-(II), (C)-(IV), (D)-(I)
- (2) (A)-(IV), (B)-(III), (C)-(I), (D)-(II)
- (3) (A)-(I), (B)-(IV), (C)-(III), (D)-(II)
- (4) (A)-(II), (B)-(I), (C)-(IV), (D)-(III)

Options :

212807125629. 1
212807125630. 2
212807125631. 3
212807125632. 4

Question Number : 128 Question Id : 21280731408 Question Type : MCQ Option Shuffling : No Is Question Mandatory : No Calculator : None
Response Time : N.A Think Time : N.A Minimum Instruction Time : 0

Correct Marks : 5 Wrong Marks : 1

Question Key Details :

Key	Value
Comprehension	MCQ

सूची-I से सूची-II का मिलान कीजिए:

सूची-I (स्थल)	सूची-II (नदी)
(A) हड़प्पा	(I) घग्गर
(B) मोहनजोदड़ो	(II) लूनी
(C) राखीगढ़ी	(III) सिंधु
(D) धोलावीरा	(IV) रावी

नीचे दिए गए विकल्पों में से सही उत्तर का चयन कीजिए :

- (1) (A)-(III), (B)-(II), (C)-(IV), (D)-(I)
- (2) (A)-(IV), (B)-(III), (C)-(I), (D)-(II)
- (3) (A)-(I), (B)-(IV), (C)-(III), (D)-(II)
- (4) (A)-(II), (B)-(I), (C)-(IV), (D)-(III)

Options :

212807125629. 1
212807125630. 2
212807125631. 3
212807125632. 4

Question Number : 129 Question Id : 21280731409 Question Type : MCQ Option Shuffling : No Is Question Mandatory : No Calculator : None
Response Time : N.A Think Time : N.A Minimum Instruction Time : 0

Correct Marks : 5 Wrong Marks : 1

Question Key Details :

Key	Value
Comprehension	MCQ

Who coined the term Genotype and Phenotype ?

- (1) Johannsen
- (2) Bateson
- (3) Madung
- (4) H. de Veries

Options :

212807125633. 1
212807125634. 2
212807125635. 3
212807125636. 4

Question Number : 129 Question Id : 21280731409 Question Type : MCQ Option Shuffling : No Is Question Mandatory : No Calculator : None
Response Time : N.A Think Time : N.A Minimum Instruction Time : 0

Correct Marks : 5 Wrong Marks : 1

Question Key Details :

Key	Value
Comprehension	MCQ

जिनोटिप एवं फिनोटिप शब्द की रचना किसने की :

- (1) जोहान्सिन
- (2) बेटसन
- (3) मैडुंग
- (4) एच. डे वेरीज

Options :

212807125633. 1
212807125634. 2
212807125635. 3
212807125636. 4

Question Number : 130 Question Id : 21280731410 Question Type : MCQ Option Shuffling : No Is Question Mandatory : No Calculator : None
Response Time : N.A Think Time : N.A Minimum Instruction Time : 0

Correct Marks : 5 Wrong Marks : 1

Question Key Details :

Key	Value
Comprehension	MCQ

Which of the following is associated with the theory of Natural Selection ?

- (1) Use and disuse
- (2) Mutation
- (3) Inheritance of acquired characters
- (4) Survival of the fittest

Options :

212807125637. 1
212807125638. 2
212807125639. 3
212807125640. 4

Question Number : 130 Question Id : 21280731410 Question Type : MCQ Option Shuffling : No Is Question Mandatory : No Calculator : None
Response Time : N.A Think Time : N.A Minimum Instruction Time : 0

Correct Marks : 5 Wrong Marks : 1

Question Key Details :

Key	Value
Comprehension	MCQ

इनमें से कौन-सा प्राकृतिक चयन के सिद्धांत से संबंधित है।

- (1) उपयोग एवं अनुपयोग
- (2) उत्परिवर्तन
- (3) अधिग्रहित लक्षणों की विरासत
- (4) योग्यतम की उत्तरजीविता

Options :

212807125637. 1
212807125638. 2
212807125639. 3
212807125640. 4

Question Number : 131 Question Id : 21280731411 Question Type : MCQ Option Shuffling : No Is Question Mandatory : No Calculator : None
Response Time : N.A Think Time : N.A Minimum Instruction Time : 0

Correct Marks : 5 Wrong Marks : 1

Question Key Details :

Key	Value
Comprehension	MCQ

Head form of 'Nordic' people is :

- (1) Brachycephalic
- (2) Dolichocephalic
- (3) Normocephalic
- (4) Hyperdolicephalic

Options :

212807125641. 1
212807125642. 2
212807125643. 3
212807125644. 4

Question Number : 131 Question Id : 21280731411 Question Type : MCQ Option Shuffling : No Is Question Mandatory : No Calculator : None
Response Time : N.A Think Time : N.A Minimum Instruction Time : 0

Correct Marks : 5 Wrong Marks : 1

Question Key Details :

Key	Value
Comprehension	MCQ

'नार्डिक' लोग के हेड रूप है :

- (1) ब्रैकीसेफेलिक
- (2) डोलिकोसेफेलिक
- (3) नॉर्मोसेफेलिक
- (4) हाइपरडोलिसेफेलिक

Options :

212807125641. 1
212807125642. 2
212807125643. 3
212807125644. 4

Question Number : 132 Question Id : 21280731412 Question Type : MCQ Option Shuffling : No Is Question Mandatory : No Calculator : None
Response Time : N.A Think Time : N.A Minimum Instruction Time : 0

Correct Marks : 5 Wrong Marks : 1

Question Key Details :

Key	Value
Comprehension	MCQ

The genotypic ratio of monohybrid cross is :

- (1) 1 : 2 : 1
- (2) 3 : 1
- (3) 2 : 1 : 1
- (4) 9 : 3 : 3 : 1

Options :

- 212807125645. 1
- 212807125646. 2
- 212807125647. 3
- 212807125648. 4

Question Number : 132 Question Id : 21280731412 Question Type : MCQ Option Shuffling : No Is Question Mandatory : No Calculator : None Response Time : N.A Think Time : N.A Minimum Instruction Time : 0

Correct Marks : 5 Wrong Marks : 1

Question Key Details :

Key	Value
Comprehension	MCQ

एक संकरी प्रसंकर क्रॉस का जीनप्ररूपी अनुपात क्या है:

- (1) 1 : 2 : 1
- (2) 3 : 1
- (3) 2 : 1 : 1
- (4) 9 : 3 : 3 : 1

Options :

- 212807125645. 1
- 212807125646. 2
- 212807125647. 3
- 212807125648. 4

Question Number : 133 Question Id : 21280731413 Question Type : MCQ Option Shuffling : No Is Question Mandatory : No Calculator : None Response Time : N.A Think Time : N.A Minimum Instruction Time : 0

Correct Marks : 5 Wrong Marks : 1

Question Key Details :

Key	Value
Comprehension	MCQ

A child of a mother with blood group A and father with blood group AB will not have the blood group :

- (1) A
- (2) B
- (3) AB
- (4) O

Options :

- 212807125649. 1
- 212807125650. 2
- 212807125651. 3
- 212807125652. 4

Question Number : 133 Question Id : 21280731413 Question Type : MCQ Option Shuffling : No Is Question Mandatory : No Calculator : None Response Time : N.A Think Time : N.A Minimum Instruction Time : 0

Correct Marks : 5 Wrong Marks : 1

Question Key Details :

Key	Value
Comprehension	MCQ

रक्त समूह ए वाली माँ एवं रक्त समूह ए बी वाले पिता की संतान का रक्त समूह नहीं हो सकता है।

- (1) ए
- (2) बी
- (3) ए बी
- (4) ओ

Options :

212807125649. 1
212807125650. 2
212807125651. 3
212807125652. 4

Question Number : 134 Question Id : 21280731414 Question Type : MCQ Option Shuffling : No Is Question Mandatory : No Calculator : None
Response Time : N.A Think Time : N.A Minimum Instruction Time : 0

Correct Marks : 5 Wrong Marks : 1

Question Key Details :

Key	Value
Comprehension	MCQ

An individual human being has 45 chromosomes, which type of chromosomal disorders he/she is having ?

- (1) Down's syndrome
- (2) Klinefelter syndrome
- (3) Turner's syndrome
- (4) Haemophilia

Options :

212807125653. 1
212807125654. 2
212807125655. 3
212807125656. 4

Question Number : 134 Question Id : 21280731414 Question Type : MCQ Option Shuffling : No Is Question Mandatory : No Calculator : None
Response Time : N.A Think Time : N.A Minimum Instruction Time : 0

Correct Marks : 5 Wrong Marks : 1

Question Key Details :

Key	Value
Comprehension	MCQ

एक व्यक्ति में 45 गुणसूत्र हैं, इनमें से वह कौन सा गुणसूत्र संबंधी विकार से पीड़ित है ?

- (1) डाउन्स सिंड्रोम
- (2) क्लीनफेल्टर सिंड्रोम
- (3) टर्नर्स सिंड्रोम
- (4) हिमोफीलिया सिंड्रोम

Options :

212807125653. 1
212807125654. 2
212807125655. 3
212807125656. 4

Question Number : 135 Question Id : 21280731415 Question Type : MCQ Option Shuffling : No Is Question Mandatory : No Calculator : None
Response Time : N.A Think Time : N.A Minimum Instruction Time : 0

Correct Marks : 5 Wrong Marks : 1

Question Key Details :

Key	Value
-----	-------

Arrange the tool families according to the evolution of their use.

- (A) Flake tool
- (B) Chopper-chopping
- (C) Celt
- (D) Bone

Choose the correct answer from the options given below :

- (1) (B), (A), (D), (C)
- (2) (A), (B), (D), (C)
- (3) (C), (D), (B), (A)
- (4) (D), (C), (A), (B)

Options :

- 212807125657. 1
- 212807125658. 2
- 212807125659. 3
- 212807125660. 4

Question Number : 135 Question Id : 21280731415 Question Type : MCQ Option Shuffling : No Is Question Mandatory : No Calculator : None Response Time : N.A Think Time : N.A Minimum Instruction Time : 0

Correct Marks : 5 Wrong Marks : 1

Question Key Details :

Key	Value
Comprehension	MCQ

इनके उपयोग की उत्पत्ति के आधार पर उपकरण के समूह को व्यवस्थित करें :

- (A) शल्क उपकरण
- (B) चापर-चापिंग
- (C) केल्ट
- (D) हड्डी / अस्थि

नीचे दिए गए विकल्पों में से सही उत्तर का चयन कीजिए :

- (1) (B), (A), (D), (C)
- (2) (A), (B), (D), (C)
- (3) (C), (D), (B), (A)
- (4) (D), (C), (A), (B)

Options :

- 212807125657. 1
- 212807125658. 2
- 212807125659. 3
- 212807125660. 4

Question Number : 136 Question Id : 21280731416 Question Type : MCQ Option Shuffling : No Is Question Mandatory : No Calculator : None Response Time : N.A Think Time : N.A Minimum Instruction Time : 0

Correct Marks : 5 Wrong Marks : 1

Question Key Details :

Key	Value
Comprehension	MCQ

Neo Evolution is associated with :

- (1) V.N. Misra
- (2) H.D. Sarkalia
- (3) V. Gordon Childe
- (4) D.K. Bhattacharya

Options :

212807125661. 1
212807125662. 2
212807125663. 3
212807125664. 4

Question Number : 136 Question Id : 21280731416 Question Type : MCQ Option Shuffling : No Is Question Mandatory : No Calculator : None
Response Time : N.A Think Time : N.A Minimum Instruction Time : 0

Correct Marks : 5 Wrong Marks : 1

Question Key Details :

Key	Value
Comprehension	MCQ

नव विकास का सिद्धांत संबंधित है :

- (1) वी.एन. मिश्रा
- (2) एच.डी. सरकालिया
- (3) वी.गोर्डोन चिल्डे
- (4) डी.के. भट्टाचार्या

Options :

212807125661. 1
212807125662. 2
212807125663. 3
212807125664. 4

Question Number : 137 Question Id : 21280731417 Question Type : MCQ Option Shuffling : No Is Question Mandatory : No Calculator : None
Response Time : N.A Think Time : N.A Minimum Instruction Time : 0

Correct Marks : 5 Wrong Marks : 1

Question Key Details :

Key	Value
Comprehension	MCQ

The chopper-chopping tools are associated with :

- (1) Mesolithic
- (2) Middle palaeolithic
- (3) Lower palaeolithic
- (4) Upper palaeolithic

Options :

212807125665. 1
212807125666. 2
212807125667. 3
212807125668. 4

Question Number : 137 Question Id : 21280731417 Question Type : MCQ Option Shuffling : No Is Question Mandatory : No Calculator : None
Response Time : N.A Think Time : N.A Minimum Instruction Time : 0

Correct Marks : 5 Wrong Marks : 1

Question Key Details :

Key	Value
Comprehension	MCQ

चॉपर-चॉपिंग उपकरण संबंधित है।

- (1) मध्य पाषाण
- (2) मध्य पुरापाषाण
- (3) निम्न पुरापाषाण
- (4) ऊपरी पुरापाषाण

Options :

212807125665. 1
212807125666. 2
212807125667. 3
212807125668. 4

Question Number : 138 Question Id : 21280731418 Question Type : MCQ Option Shuffling : No Is Question Mandatory : No Calculator : None
Response Time : N.A Think Time : N.A Minimum Instruction Time : 0

Correct Marks : 5 Wrong Marks : 1

Question Key Details :

Key	Value
Comprehension	MCQ

A celt is _____ from the Neolithic period.

- (1) a tomb
- (2) a tool
- (3) a house
- (4) an urn

Options :

212807125669. 1
212807125670. 2
212807125671. 3
212807125672. 4

Question Number : 138 Question Id : 21280731418 Question Type : MCQ Option Shuffling : No Is Question Mandatory : No Calculator : None
Response Time : N.A Think Time : N.A Minimum Instruction Time : 0

Correct Marks : 5 Wrong Marks : 1

Question Key Details :

Key	Value
Comprehension	MCQ

नवपाषाण _____ काल से केल्ट

- (1) एक कब्र/समाधि
- (2) एक उपकरण
- (3) एक घर
- (4) एक कलश

Options :

212807125669. 1
212807125670. 2
212807125671. 3
212807125672. 4

Question Number : 139 Question Id : 21280731419 Question Type : MCQ Option Shuffling : No Is Question Mandatory : No Calculator : None
Response Time : N.A Think Time : N.A Minimum Instruction Time : 0

Correct Marks : 5 Wrong Marks : 1

Question Key Details :

Key	Value
Comprehension	MCQ

The prehistoric art appeared for the first time during :

- (1) Neolithic period
- (2) Upper palaeolithic period
- (3) Mesolithic period
- (4) Chalcolithic period

Options :

212807125673. 1
212807125674. 2
212807125675. 3
212807125676. 4

Question Number : 139 Question Id : 21280731419 Question Type : MCQ Option Shuffling : No Is Question Mandatory : No Calculator : None
Response Time : N.A Think Time : N.A Minimum Instruction Time : 0

Correct Marks : 5 Wrong Marks : 1

Question Key Details :

Key	Value
Comprehension	MCQ

प्रागैतिहासिक कला किस काल खंड में पहली बार उभरी :

- (1) नवपाषाण काल
- (2) ऊपरी पुरापाषाण काल
- (3) मध्य पाषाण
- (4) ताम्र पाषाण काल

Options :

212807125673. 1
212807125674. 2
212807125675. 3
212807125676. 4

Question Number : 140 Question Id : 21280731420 Question Type : MCQ Option Shuffling : No Is Question Mandatory : No Calculator : None
Response Time : N.A Think Time : N.A Minimum Instruction Time : 0

Correct Marks : 5 Wrong Marks : 1

Question Key Details :

Key	Value
Comprehension	MCQ

In which of the following age copper was first used ?

- (1) Neolithic Age
- (2) Mesolithic Age
- (3) Palaeolithic Age
- (4) Chalcolithic Age

Options :

212807125677. 1
212807125678. 2
212807125679. 3
212807125680. 4

Question Number : 140 Question Id : 21280731420 Question Type : MCQ Option Shuffling : No Is Question Mandatory : No Calculator : None
Response Time : N.A Think Time : N.A Minimum Instruction Time : 0

Correct Marks : 5 Wrong Marks : 1

Question Key Details :

Key	Value
Comprehension	MCQ

किस युग में पहली बार तांबे का इस्तेमाल किया गया था।

- (1) नवपाषाण युग
- (2) मध्य पाषाण युग
- (3) पुरापाषाण युग
- (4) ताम्रपाषाण युग

Options :

212807125677. 1
212807125678. 2
212807125679. 3
212807125680. 4

Sub-Section Number : 2
Sub-Section Id : 2128072488
Question Shuffling Allowed : No
Is Section Default? : null

Question Number : 141 Question Id : 21280731421 Question Type : MCQ Option Shuffling : No Is Question Mandatory : No Calculator : None
Response Time : N.A Think Time : N.A Minimum Instruction Time : 0

Correct Marks : 5 Wrong Marks : 1

Question Key Details :

Key	Value
Comprehension	Compl

Read the passage given below and answer the question.

Like Paleolithic, Neolithic is also a Greek word. It means 'New Stone'. The period since the discovery of agriculture to the rise of urban civilization has been bracketed, as New Stone or Neolithic Age. This Age lasted approximately from 8000BC to 3000BC. The earlier anthropologists conceived everything on the basis of technological types, so they distinguished two grand divisions in Stone Age, which were different from each other by the technique of stone working. Palaeolithic tools and implements were made solely by chipping. They were very crude in nature. But the Neolithic stone objects were pecked, ground, rubbed and polished; they were far better in finishing as well as in effectiveness. Man was no longer a food-gatherer, he became a food-producer at the advent of Neolithic.

Twentieth Century anthropologists defined Neolithic Age in terms of domesticated plants and animals. They also counted the presence of pottery and absence of metal as indispensable criteria for a pure Neolithic site. V. Gordon Childe mentioned that the Neolithic had opened an entire new way of life and he termed it as 'Neolithic Revolution'. After the end of Pleistocene Ice Age, first acquisition of domestic plants and animals stood as the greatest achievement of man and therefore the period has been recognized as a great turning point or 'revolution', perhaps comparable in importance only with the 'Industrial Revolution' of recent period. But the origin and early spread of agriculture is still a matter of conjecture and only fragmentary evidences are found on this topic. There is no area in the world where the stages from pure hunting and gathering to farming can be traced step by step in adequate detail. However, the early development of agriculture was rooted in the environmental and cultural conditions at the end of Pleistocene epoch. By this time, the biological development of man was complete as evident in the skeletal remains of modern type of man corresponding to the particular period. It is therefore assumed that the people of this period had grown the capacities for cultural innovation.

Discovery of agriculture belongs to :

- (1) Palaeolithic age
- (2) Mesolithic age
- (3) Neolithic age
- (4) Chalcolithic age

Options :

212807125681. 1
212807125682. 2
212807125683. 3
212807125684. 4

Question Number : 141 Question Id : 21280731421 Question Type : MCQ Option Shuffling : No Is Question Mandatory : No Calculator : None
Response Time : N.A Think Time : N.A Minimum Instruction Time : 0

Correct Marks : 5 Wrong Marks : 1

Question Key Details :

Key	Value
Comprehension	Compl

निम्नलिखित गद्यांश को पढ़कर प्रश्नों के उत्तर दीजिए :

पुरापाषाण की तरह, नवपाषाण भी एक ग्रीक शब्द है। इसका अर्थ है 'नवीन पत्थर' कृषि की खोज से लेकर शहरी सभ्यता के उदय एक के काल को नवीन पाषाण या नवपाषाण युग के रूप में रखा गया है। यह युग लगभग 8000 ईसा पूर्व से 3000 ईसा पूर्व तक रहा। पूर्व मानवविज्ञानियों ने सभी विचारों को तकनीकियों के प्रकार के आधार पर गढ़ा इसलिए उन्होंने पाषाण युग को दो मुख्य भागों में चिह्नित किया, जो पत्थरों पर कार्य करने के तकनीक के कारण एक दूसरे से भिन्न थी। पुरापाषाण काल में औजार एवं उपकरणों को केवल पत्थरों को छिल कर बनाया जाता था। वे अपरिष्कृत प्रकार के उपकरण थे। किन्तु नवपाषाण काल में पत्थरों को तोड़कर, काटकर, रगड़कर पालिश करके उपकरणों को बनाया जाता था, उनकी बनावट एवं प्रभावशीलता कहीं ज्यादा बेहतर होती थी। मनुष्य अब केवल एक भोजन संग्राहक नहीं रहा गया था, बल्कि नवपाषाण के आगमन तक वह एक भोजन-उत्पादक बन गया था।

बीसवीं सदी के मानवविज्ञानियों ने नवपाषाण काल को मनुष्यों द्वारा उगाए गए पौधों एवं पाले गए जानवरों के आधार पर परिभाषित किया है। उन्होंने मिट्टी के बर्तनों की उपयोगिता एवं धातु की अनुपस्थिति को नवपाषाण स्थलों की एक अपरिहार्य मानदंड के रूप में माना। वी गोर्डन चिल्डे ने बताया कि नवपाषाण काल ने जीने का एक संपूर्ण नया तरीका अपनाया जिसे उन्होंने 'नवपाषाण क्रांति' को नाम दिया। प्लेइस्टोसिन युग (अत्यंतनूतन युग) के समाप्ति पर, घरेलू पौधों को उगाया जाना एवं पशुपालन मानवों की सबसे बड़ी उपलब्धि के रूप में मानी गई और इसलिए इस काल को एक महान टर्निंग प्वाइंट या क्रांति के रूप में माना गया जिसकी तुलना महत्ता में शायद केवल हाल में हुई औद्योगिक क्रांति से की जा सकती है। किन्तु कृषि का उद्भव एवं प्रारंभिक प्रसार अभी भी अनुमानित है एवं इस विषय पर केवल खंडित साक्ष्य ही उपलब्ध है। इस विश्व में ऐसा कोई भी स्थान नहीं है जहाँ से संपूर्ण शिकार एवं संग्रहण से लेकर कृषि तक की अवस्थाओं को पर्याप्त साक्ष्य के साथ चरणबद्ध तरीके से देखा जा सकता है। तथापि प्लेइस्टोसिन युग के अंत में, कृषि का प्रारंभिक विकास पर्यावरणीय एवं सांस्कृतिक स्थितियों में पायी जाती है। इस समय तक, जैसा कि खास अवधि के आधुनिक मानव के कंकाल अवशेषों से पता लगता है मानव का जैविक विकास पूरा हो गया था। अतः ऐसा माना गया है कि इस युग के मानव में सांस्कृतिक नवाचारों के लिए क्षमता उत्पन्न हो गई थी।

खेती की खोज संबंधित है :

- (1) पुरापाषाण काल
- (2) मध्य पाषाण काल
- (3) नव पाषाण काल
- (4) ताम्र पाषाण काल

Options :

212807125681. 1
212807125682. 2
212807125683. 3
212807125684. 4

Question Number : 142 Question Id : 21280731422 Question Type : MCQ Option Shuffling : No Is Question Mandatory : No Calculator : None
Response Time : N.A Think Time : N.A Minimum Instruction Time : 0

Correct Marks : 5 Wrong Marks : 1

Question Key Details :

Key	Value
Comprehension	Comp1

Read the passage given below and answer the question.

Like Paleolithic, Neolithic is also a Greek word. It means 'New Stone'. The period since the discovery of agriculture to the rise of urban civilization has been bracketed, as New Stone or Neolithic Age. This Age lasted approximately from 8000BC to 3000BC. The earlier anthropologists conceived everything on the basis of technological types, so they distinguished two grand divisions in Stone Age, which were different from each other by the technique of stone working. Palaeolithic tools and implements were made solely by chipping. They were very crude in nature. But the Neolithic stone objects were pecked, ground, rubbed and polished; they were far better in finishing as well as in effectiveness. Man was no longer a food-gatherer, he became a food-producer at the advent of Neolithic.

Twentieth Century anthropologists defined Neolithic Age in terms of domesticated plants and animals. They also counted the presence of pottery and absence of metal as indispensable criteria for a pure Neolithic site. V. Gordon Childe mentioned that the Neolithic had opened an entire new way of life and he termed it as 'Neolithic Revolution'. After the end of Pleistocene Ice Age, first acquisition of domestic plants and animals stood as the greatest achievement of man and therefore the period has been recognized as a great turning point or 'revolution', perhaps comparable in importance only with the 'Industrial Revolution' of recent period. But the origin and early spread of agriculture is still a matter of conjecture and only fragmentary evidences are found on this topic. There is no area in the world where the stages from pure hunting and gathering to farming can be traced step by step in adequate detail. However, the early development of agriculture was rooted in the environmental and cultural conditions at the end of Pleistocene epoch. By this time, the biological development of man was complete as evident in the skeletal remains of modern type of man corresponding to the particular period. It is therefore assumed that the people of this period had grown the capacities for cultural innovation.

The stone tools of Neolithic are :

- (1) Pebble tools
- (2) Hand axe
- (3) Blade tools
- (4) Polished tools

Options :

212807125685. 1

212807125686. 2

212807125687. 3

212807125688. 4

Question Number : 142 Question Id : 21280731422 Question Type : MCQ Option Shuffling : No Is Question Mandatory : No Calculator : None
Response Time : N.A Think Time : N.A Minimum Instruction Time : 0

Correct Marks : 5 Wrong Marks : 1

Question Key Details :

Key	Value
Comprehension	Comp1

निम्नलिखित गद्यांश को पढ़कर प्रश्नों के उत्तर दीजिए :

पुरापाषाण की तरह, नवपाषाण भी एक ग्रीक शब्द है। इसका अर्थ है 'नवीन पत्थर' कृषि की खोज से लेकर शहरी सभ्यता के उदय एक के काल को नवीन पाषाण या नवपाषाण युग के रूप में रखा गया है। यह युग लगभग 8000 ईसा पूर्व से 3000 ईसा पूर्व तक रहा। पूर्व मानवविज्ञानियों ने सभी विचारों को तकनीकियों के प्रकार के आधार पर गढ़ा इसलिए उन्होंने पाषाण युग को दो मुख्य भागों में चिन्हित किया, जो पत्थरों पर कार्य करने के तकनीक के कारण एक दूसरे से भिन्न थी। पुरापाषाण काल में औजार एवं उपकरणों को केवल पत्थरों को छिल कर बनाया जाता था। वे अपरिष्कृत प्रकार के उपकरण थे। किन्तु नवपाषाण काल में पत्थरों को तोड़कर, काटकर, रगड़कर पालिश करके उपकरणों को बनाया जाता था, उनकी बनावट एवं प्रभावशीलता कहीं ज्यादा बेहतर होती थी। मनुष्य अब केवल एक भोजन संग्राहक नहीं रहा गया था, बल्कि नवपाषाण के आगमन तक वह एक भोजन-उत्पादक बन गया था।

बीसवीं सदी के मानवविज्ञानियों ने नवपाषाण काल को मनुष्यों द्वारा उगाए गए पौधों एवं पाले गए जानवरों के आधार पर परिभाषित किया है। उन्होंने मिट्टी के बर्तनों की उपयोगिता एवं धातु की अनुपस्थिति को नवपाषाण स्थलों की एक अपरिहार्य मानदंड के रूप में माना। बी गोर्डन चिल्डे ने बताया कि नवपाषाण काल ने जीने का एक संपूर्ण नया तरीका अपनाया जिसे उन्होंने 'नवपाषाण क्रांति' को नाम दिया। प्लेइस्टोसिन युग (अत्यंतनूतन युग) के समाप्ति पर, घरेलू पौधों को उगाया जाना एवं पशुपालन मानवों की सबसे बड़ी उपलब्धि के रूप में मानी गई और इसलिए इस काल को एक महान टर्निंग प्वाइंट या क्रांति के रूप में माना गया जिसकी तुलना महत्ता में शायद केवल हाल में हुई औद्योगिक क्रांति से की जा सकती है। किन्तु कृषि का उद्भव एवं प्रारंभिक प्रसार अभी भी अनुमानित है एवं इस विषय पर केवल खंडित साक्ष्य ही उपलब्ध है। इस विश्व में ऐसा कोई भी स्थान नहीं है जहाँ से संपूर्ण शिकार एवं संग्रहण से लेकर कृषि तक की अवस्थाओं को पर्याप्त साक्ष्य के साथ चरणबद्ध तरीके से देखा जा सकता है। तथापि प्लेइस्टोसिन युग के अंत में, कृषि का प्रारंभिक विकास पर्यावरणीय एवं सांस्कृतिक स्थितियों में पायी जाती है। इस समय तक, जैसा कि खास अवधि के आधुनिक मानव के कंकाल अवशेषों से पता लगता है मानव का जैविक विकास पूरा हो गया था। अतः ऐसा माना गया है कि इस युग के मानव में सांस्कृतिक नवाचारों के लिए क्षमता उत्पन्न हो गई थी।

नवपाषाण काल के पत्थरों के उपकरण थे :

- (1) पेबल उपकरण
- (2) हाथ की कुल्हाड़ी
- (3) ब्लेड (फलक) के उपकरण
- (4) पालिशड उपकरण

Options :

212807125685. 1
212807125686. 2
212807125687. 3
212807125688. 4

Question Number : 143 Question Id : 21280731423 Question Type : MCQ Option Shuffling : No Is Question Mandatory : No Calculator : None
Response Time : N.A Think Time : N.A Minimum Instruction Time : 0

Correct Marks : 5 Wrong Marks : 1

Question Key Details :

Key	Value
Comprehension	Comp1

Read the passage given below and answer the question.

Like Paleolithic, Neolithic is also a Greek word. It means 'New Stone'. The period since the discovery of agriculture to the rise of urban civilization has been bracketed, as New Stone or Neolithic Age. This Age lasted approximately from 8000BC to 3000BC. The earlier anthropologists conceived everything on the basis of technological types, so they distinguished two grand divisions in Stone Age, which were different from each other by the technique of stone working. Palaeolithic tools and implements were made solely by chipping. They were very crude in nature. But the Neolithic stone objects were pecked, ground, rubbed and polished; they were far better in finishing as well as in effectiveness. Man was no longer a food-gatherer, he became a food-producer at the advent of Neolithic.

Twentieth Century anthropologists defined Neolithic Age in terms of domesticated plants and animals. They also counted the presence of pottery and absence of metal as indispensable criteria for a pure Neolithic site. V. Gordon Childe mentioned that the Neolithic had opened an entire new way of life and he termed it as 'Neolithic Revolution'. After the end of Pleistocene Ice Age, first acquisition of domestic plants and animals stood as the greatest achievement of man and therefore the period has been recognized as a great turning point or 'revolution', perhaps comparable in importance only with the 'Industrial Revolution' of recent period. But the origin and early spread of agriculture is still a matter of conjecture and only fragmentary evidences are found on this topic. There is no area in the world where the stages from pure hunting and gathering to farming can be traced step by step in adequate detail. However, the early development of agriculture was rooted in the environmental and cultural conditions at the end of Pleistocene epoch. By this time, the biological development of man was complete as evident in the skeletal remains of modern type of man corresponding to the particular period. It is therefore assumed that the people of this period had grown the capacities for cultural innovation.

Neolithic stone age existed during :

- (1) 5000 BC to 3000 BC
- (2) 4000 BC to 3000 BC
- (3) 8000 BC to 3000 BC
- (4) 4000 BC to 2000 BC

Options :

212807125689. 1

212807125690. 2

212807125691. 3

212807125692. 4

Question Number : 143 Question Id : 21280731423 Question Type : MCQ Option Shuffling : No Is Question Mandatory : No Calculator : None Response Time : N.A Think Time : N.A Minimum Instruction Time : 0

Correct Marks : 5 Wrong Marks : 1

Question Key Details :

Key	Value
Comprehension	Comp1

निम्नलिखित गद्यांश को पढ़कर प्रश्नों के उत्तर दीजिए :

पुरापाषाण की तरह, नवपाषाण भी एक ग्रीक शब्द है। इसका अर्थ है 'नवीन पत्थर' कृषि की खोज से लेकर शहरी सभ्यता के उदय एक के काल को नवीन पाषाण या नवपाषाण युग के रूप में रखा गया है। यह युग लगभग 8000 ईसा पूर्व से 3000 ईसा पूर्व तक रहा। पूर्व मानवविज्ञानियों ने सभी विचारों को तकनीकियों के प्रकार के आधार पर गढ़ा इसलिए उन्होंने पाषाण युग को दो मुख्य भागों में चिन्हित किया, जो पत्थरों पर कार्य करने के तकनीक के कारण एक दूसरे से भिन्न थी। पुरापाषाण काल में औजार एवं उपकरणों को केवल पत्थरों को छिल कर बनाया जाता था। वे अपरिष्कृत प्रकार के उपकरण थे। किन्तु नवपाषाण काल में पत्थरों को तोड़कर, काटकर, रगड़कर पालिश करके उपकरणों को बनाया जाता था, उनकी बनावट एवं प्रभावशीलता कहीं ज्यादा बेहतर होती थी। मनुष्य अब केवल एक भोजन संग्राहक नहीं रहा गया था, बल्कि नवपाषाण के आगमन तक वह एक भोजन-उत्पादक बन गया था।

बीसवीं सदी के मानवविज्ञानियों ने नवपाषाण काल को मनुष्यों द्वारा उगाए गए पौधों एवं पाले गए जानवरों के आधार पर परिभाषित किया है। उन्होंने मिट्टी के बर्तनों की उपयोगिता एवं धातु की अनुपस्थिति को नवपाषाण स्थलों की एक अपरिहार्य मानदंड के रूप में माना। बी गोर्डन चिल्डे ने बताया कि नवपाषाण काल ने जीने का एक संपूर्ण नया तरीका अपनाया जिसे उन्होंने 'नवपाषाण क्रांति' को नाम दिया। प्लेइस्टोसिन युग (अत्यंतनूतन युग) के समाप्ति पर, घरेलू पौधों को उगाया जाना एवं पशुपालन मानवों की सबसे बड़ी उपलब्धि के रूप में मानी गई और इसलिए इस काल को एक महान टर्निंग प्वाइंट या क्रांति के रूप में माना गया जिसकी तुलना महत्ता में शायद केवल हाल में हुई औद्योगिक क्रांति से की जा सकती है। किन्तु कृषि का उद्भव एवं प्रारंभिक प्रसार अभी भी अनुमानित है एवं इस विषय पर केवल खंडित साक्ष्य ही उपलब्ध है। इस विश्व में ऐसा कोई भी स्थान नहीं है जहाँ से संपूर्ण शिकार एवं संग्रहण से लेकर कृषि तक की अवस्थाओं को पर्याप्त साक्ष्य के साथ चरणबद्ध तरीके से देखा जा सकता है। तथापि प्लेइस्टोसिन युग के अंत में, कृषि का प्रारंभिक विकास पर्यावरणीय एवं सांस्कृतिक स्थितियों में पायी जाती है। इस समय तक, जैसा कि खास अवधि के आधुनिक मानव के कंकाल अवशेषों से पता लगता है मानव का जैविक विकास पूरा हो गया था। अतः ऐसा माना गया है कि इस युग के मानव में सांस्कृतिक नवाचारों के लिए क्षमता उत्पन्न हो गई थी।

नवपाषाण काल का अस्तित्व था

- (1) 5000 बीसी से 3000 बीसी
- (2) 4000 बीसी से 3000 बीसी
- (3) 8000 बीसी से 3000 बीसी
- (4) 4000 बीसी से 2000 बीसी

Options :

212807125689. 1
212807125690. 2
212807125691. 3
212807125692. 4

Question Number : 144 Question Id : 21280731424 Question Type : MCQ Option Shuffling : No Is Question Mandatory : No Calculator : None Response Time : N.A Think Time : N.A Minimum Instruction Time : 0

Correct Marks : 5 Wrong Marks : 1

Question Key Details :

Key	Value
Comprehension	Compl

Read the passage given below and answer the question.

Like Paleolithic, Neolithic is also a Greek word. It means 'New Stone'. The period since the discovery of agriculture to the rise of urban civilization has been bracketed, as New Stone or Neolithic Age. This Age lasted approximately from 8000BC to 3000BC. The earlier anthropologists conceived everything on the basis of technological types, so they distinguished two grand divisions in Stone Age, which were different from each other by the technique of stone working. Palaeolithic tools and implements were made solely by chipping. They were very crude in nature. But the Neolithic stone objects were pecked, ground, rubbed and polished; they were far better in finishing as well as in effectiveness. Man was no longer a food-gatherer, he became a food-producer at the advent of Neolithic.

Twentieth Century anthropologists defined Neolithic Age in terms of domesticated plants and animals. They also counted the presence of pottery and absence of metal as indispensable criteria for a pure Neolithic site. V. Gordon Childe mentioned that the Neolithic had opened an entire new way of life and he termed it as 'Neolithic Revolution'. After the end of Pleistocene Ice Age, first acquisition of domestic plants and animals stood as the greatest achievement of man and therefore the period has been recognized as a great turning point or 'revolution', perhaps comparable in importance only with the 'Industrial Revolution' of recent period. But the origin and early spread of agriculture is still a matter of conjecture and only fragmentary evidences are found on this topic. There is no area in the world where the stages from pure hunting and gathering to farming can be traced step by step in adequate detail. However, the early development of agriculture was rooted in the environmental and cultural conditions at the end of Pleistocene epoch. By this time, the biological development of man was complete as evident in the skeletal remains of modern type of man corresponding to the particular period. It is therefore assumed that the people of this period had grown the capacities for cultural innovation.

'Neolithic' is also known as :

- (1) old stone age
- (2) middle stone age
- (3) new stone age
- (4) modern stone age

Options :

212807125693. 1

212807125694. 2

212807125695. 3

212807125696. 4

Question Number : 144 Question Id : 21280731424 Question Type : MCQ Option Shuffling : No Is Question Mandatory : No Calculator : None
Response Time : N.A Think Time : N.A Minimum Instruction Time : 0

Correct Marks : 5 Wrong Marks : 1

Question Key Details :

Key	Value
Comprehension	Comp1

निम्नलिखित गद्यांश को पढ़कर प्रश्नों के उत्तर दीजिए :

पुरापाषाण की तरह, नवपाषाण भी एक ग्रीक शब्द है। इसका अर्थ है 'नवीन पत्थर' कृषि की खोज से लेकर शहरी सभ्यता के उदय एक के काल को नवीन पाषाण या नवपाषाण युग के रूप में रखा गया है। यह युग लगभग 8000 ईसा पूर्व से 3000 ईसा पूर्व तक रहा। पूर्व मानवविज्ञानियों ने सभी विचारों को तकनीकियों के प्रकार के आधार पर गढ़ा इसलिए उन्होंने पाषाण युग को दो मुख्य भागों में चिन्हित किया, जो पत्थरों पर कार्य करने के तकनीक के कारण एक दूसरे से भिन्न थी। पुरापाषाण काल में औजार एवं उपकरणों को केवल पत्थरों को छिल कर बनाया जाता था। वे अपरिष्कृत प्रकार के उपकरण थे। किन्तु नवपाषाण काल में पत्थरों को तोड़कर, काटकर, रगड़कर पालिश करके उपकरणों को बनाया जाता था, उनकी बनावट एवं प्रभावशीलता कहीं ज्यादा बेहतर होती थी। मनुष्य अब केवल एक भोजन संग्राहक नहीं रहा गया था, बल्कि नवपाषाण के आगमन तक वह एक भोजन-उत्पादक बन गया था।

बीसवीं सदी के मानवविज्ञानियों ने नवपाषाण काल को मनुष्यों द्वारा उगाए गए पौधों एवं पाले गए जानवरों के आधार पर परिभाषित किया है। उन्होंने मिट्टी के बर्तनों की उपयोगिता एवं धातु की अनुपस्थिति को नवपाषाण स्थलों की एक अपरिहार्य मानदंड के रूप में माना। बी गोर्डन चिल्डे ने बताया कि नवपाषाण काल ने जीने का एक संपूर्ण नया तरीका अपनाया जिसे उन्होंने 'नवपाषाण क्रांति' को नाम दिया। प्लेइस्टोसिन युग (अत्यंतनूतन युग) के समाप्ति पर, घरेलू पौधों को उगाया जाना एवं पशुपालन मानवों की सबसे बड़ी उपलब्धि के रूप में मानी गई और इसलिए इस काल को एक महान टर्निंग प्वाइंट या क्रांति के रूप में माना गया जिसकी तुलना महत्ता में शायद केवल हाल में हुई औद्योगिक क्रांति से की जा सकती है। किन्तु कृषि का उद्भव एवं प्रारंभिक प्रसार अभी भी अनुमानित है एवं इस विषय पर केवल खंडित साक्ष्य ही उपलब्ध है। इस विश्व में ऐसा कोई भी स्थान नहीं है जहाँ से संपूर्ण शिकार एवं संग्रहण से लेकर कृषि तक की अवस्थाओं को पर्याप्त साक्ष्य के साथ चरणबद्ध तरीके से देखा जा सकता है। तथापि प्लेइस्टोसिन युग के अंत में, कृषि का प्रारंभिक विकास पर्यावरणीय एवं सांस्कृतिक स्थितियों में पायी जाती है। इस समय तक, जैसा कि खास अवधि के आधुनिक मानव के कंकाल अवशेषों से पता लगता है मानव का जैविक विकास पूरा हो गया था। अतः ऐसा माना गया है कि इस युग के मानव में सांस्कृतिक नवाचारों के लिए क्षमता उत्पन्न हो गई थी।

'नवपाषाण' काल को इस नाम से भी जाना जाता है

- (1) पुरा पाषाण युग
- (2) मध्य पाषाण युग
- (3) नवीन पाषाण युग
- (4) आधुनिक पाषाण युग

Options :

212807125693. 1
212807125694. 2
212807125695. 3
212807125696. 4

Question Number : 145 Question Id : 21280731425 Question Type : MCQ Option Shuffling : No Is Question Mandatory : No Calculator : None Response Time : N.A Think Time : N.A Minimum Instruction Time : 0

Correct Marks : 5 Wrong Marks : 1

Question Key Details :

Key	Value
Comprehension	Comp1

Read the passage given below and answer the question.

Like Paleolithic, Neolithic is also a Greek word. It means 'New Stone'. The period since the discovery of agriculture to the rise of urban civilization has been bracketed, as New Stone or Neolithic Age. This Age lasted approximately from 8000BC to 3000BC. The earlier anthropologists conceived everything on the basis of technological types, so they distinguished two grand divisions in Stone Age, which were different from each other by the technique of stone working. Palaeolithic tools and implements were made solely by chipping. They were very crude in nature. But the Neolithic stone objects were pecked, ground, rubbed and polished; they were far better in finishing as well as in effectiveness. Man was no longer a food-gatherer, he became a food-producer at the advent of Neolithic.

Twentieth Century anthropologists defined Neolithic Age in terms of domesticated plants and animals. They also counted the presence of pottery and absence of metal as indispensable criteria for a pure Neolithic site. V. Gordon Childe mentioned that the Neolithic had opened an entire new way of life and he termed it as 'Neolithic Revolution'. After the end of Pleistocene Ice Age, first acquisition of domestic plants and animals stood as the greatest achievement of man and therefore the period has been recognized as a great turning point or 'revolution', perhaps comparable in importance only with the 'Industrial Revolution' of recent period. But the origin and early spread of agriculture is still a matter of conjecture and only fragmentary evidences are found on this topic. There is no area in the world where the stages from pure hunting and gathering to farming can be traced step by step in adequate detail. However, the early development of agriculture was rooted in the environmental and cultural conditions at the end of Pleistocene epoch. By this time, the biological development of man was complete as evident in the skeletal remains of modern type of man corresponding to the particular period. It is therefore assumed that the people of this period had grown the capacities for cultural innovation.

In Neolithic period the man was complete in terms of skeletal remains of :

- (1) Homo habilis
- (2) Modern man
- (3) Cro-Magnon man
- (4) Grimaldi man

Options :

212807125697. 1

212807125698. 2

212807125699. 3

212807125700. 4

Question Number : 145 Question Id : 21280731425 Question Type : MCQ Option Shuffling : No Is Question Mandatory : No Calculator : None
Response Time : N.A Think Time : N.A Minimum Instruction Time : 0

Correct Marks : 5 Wrong Marks : 1

Question Key Details :

Key	Value
Comprehension	Comp1

निम्नलिखित गद्यांश को पढ़कर प्रश्नों के उत्तर दीजिए :

पुरापाषाण की तरह, नवपाषाण भी एक ग्रीक शब्द है। इसका अर्थ है 'नवीन पत्थर' कृषि की खोज से लेकर शहरी सभ्यता के उदय एक के काल को नवीन पाषाण या नवपाषाण युग के रूप में रखा गया है। यह युग लगभग 8000 ईसा पूर्व से 3000 ईसा पूर्व तक रहा। पूर्व मानवविज्ञानियों ने सभी विचारों को तकनीकियों के प्रकार के आधार पर गढ़ा इसलिए उन्होंने पाषाण युग को दो मुख्य भागों में चिन्हित किया, जो पत्थरों पर कार्य करने के तकनीक के कारण एक दूसरे से भिन्न थी। पुरापाषाण काल में औजार एवं उपकरणों को केवल पत्थरों को छिल कर बनाया जाता था। वे अपरिष्कृत प्रकार के उपकरण थे। किन्तु नवपाषाण काल में पत्थरों को तोड़कर, काटकर, रगड़कर पालिश करके उपकरणों को बनाया जाता था, उनकी बनावट एवं प्रभावशीलता कहीं ज्यादा बेहतर होती थी। मनुष्य अब केवल एक भोजन संग्राहक नहीं रहा गया था, बल्कि नवपाषाण के आगमन तक वह एक भोजन-उत्पादक बन गया था।

बीसवीं सदी के मानवविज्ञानियों ने नवपाषाण काल को मनुष्यों द्वारा उगाए गए पौधों एवं पाले गए जानवरों के आधार पर परिभाषित किया है। उन्होंने मिट्टी के बर्तनों की उपयोगिता एवं धातु की अनुपस्थिति को नवपाषाण स्थलों की एक अपरिहार्य मानदंड के रूप में माना। वी गोर्डन चिल्डे ने बताया कि नवपाषाण काल ने जीने का एक संपूर्ण नया तरीका अपनाया जिसे उन्होंने 'नवपाषाण क्रांति' को नाम दिया। प्लेइस्टोसिन युग (अत्यंतनूतन युग) के समाप्ति पर, घरेलू पौधों को उगाया जाना एवं पशुपालन मानवों की सबसे बड़ी उपलब्धि के रूप में मानी गई और इसलिए इस काल को एक महान टर्निंग प्वाइंट या क्रांति के रूप में माना गया जिसकी तुलना महत्ता में शायद केवल हाल में हुई औद्योगिक क्रांति से की जा सकती है। किन्तु कृषि का उद्भव एवं प्रारंभिक प्रसार अभी भी अनुमानित है एवं इस विषय पर केवल खंडित साक्ष्य ही उपलब्ध है। इस विश्व में ऐसा कोई भी स्थान नहीं है जहाँ से संपूर्ण शिकार एवं संग्रहण से लेकर कृषि तक की अवस्थाओं को पर्याप्त साक्ष्य के साथ चरणबद्ध तरीके से देखा जा सकता है। तथापि प्लेइस्टोसिन युग के अंत में, कृषि का प्रारंभिक विकास पर्यावरणीय एवं सांस्कृतिक स्थितियों में पायी जाती है। इस समय तक, जैसा कि खास अवधि के आधुनिक मानव के कंकाल अवशेषों से पता लगता है मानव का जैविक विकास पूरा हो गया था। अतः ऐसा माना गया है कि इस युग के मानव में सांस्कृतिक नवाचारों के लिए क्षमता उत्पन्न हो गई थी।

सांस्कृतिक नवाचारों के लिए क्षमता उत्पन्न हो गई थी

- (1) होमो हैबिलिस
- (2) आधुनिक मनुष्य
- (3) क्रो मैगनन मनुष्य
- (4) ग्रिमाल्डी मनुष्य

Options :

212807125697. 1
212807125698. 2
212807125699. 3
212807125700. 4

Sub-Section Number : 3
Sub-Section Id : 2128072489
Question Shuffling Allowed : No
Is Section Default? : null

Question Number : 146 Question Id : 21280731426 Question Type : MCQ Option Shuffling : No Is Question Mandatory : No Calculator : None

Response Time : N.A Think Time : N.A Minimum Instruction Time : 0

Correct Marks : 5 Wrong Marks : 1

Question Key Details :

Key	Value
Comprehension	Comp2

Read the passage given below and answer the question.

Mendel's experiment with tall and dwarf peas, therefore, showed both homozygous and heterozygous zygotes. In pure tall variety, two factors (alleles) remain identical forming TT combination. Similarly, the pure dwarf variety shows tt combination. The hybrid tall plants of the first filial generation (F1) carry two unlike factors, Tt. Mendel in his experiment clearly established the fact that the recessive characters are not expressed in heterozygous condition, but will be expressed in recessive homozygotes (dwarf pea). In a cross between true-breed contrasting varieties, we can classify F2 progeny (grandchildren progeny) in two ways, either according to their appearance (phenotype) or according to their genetic composition (genotype). The phenotype classifies three individuals as tall out of four, whereas genotype identifies two hybrids (Tt) among the tall. Genotypically the F2 generation is composed of 1 TT, 2 Tt and 1 tt. The terms *phenotype* and *genotype* therefore refer to the visible expression of the genes (or Mendelian factors) and the actual genetic constitution of an individual respectively. Mendel discovered the important fact, that in the F1 hybrids, the parental characteristics (or factors or alleles) were not lost or mixed to produce the intermediates, rather the factors or alleles remain segregated. This non-mixing of alleles in the hybrid and their subsequent segregation (equal proportion is maintained in the gamete) is *principle of Segregation of Mendel's first law*.

Mendel selected the following pea plants for his experiment :

- (1) Tall and Dwarf
- (2) All tall
- (3) All dwarf
- (4) All medium

Options :

- 212807125701. 1
- 212807125702. 2
- 212807125703. 3
- 212807125704. 4

Question Number : 146 Question Id : 21280731426 Question Type : MCQ Option Shuffling : No Is Question Mandatory : No Calculator : None
Response Time : N.A Think Time : N.A Minimum Instruction Time : 0

Correct Marks : 5 Wrong Marks : 1

Question Key Details :

Key	Value
Comprehension	Comp2

निम्नलिखित गद्यांश को पढ़कर प्रश्नों के उत्तर दीजिए :

लम्बे एवं छोटे मटर के ऊपर मेंडल के अनुप्रयोग ने दोनो ही समयुग्मक (होमोजाइग) एवं विषमयुग्मजी (हेटरोजाइगोज)को दिखाया। शुद्ध संस्करण लम्हें में, दो कारक (युग्म विकल्पों) TT संयोजन से समान रहते हैं। इस प्रकार, केवल बौने प्रकार में tt संयोजन दिखा। पहले संतानोचित पीढ़ी (F1) के मिश्रित लंबे पौधों में दो भिन्न-भिन्न तत्व थे, Tt मेंडल ने अपने अनुप्रयोग में स्पष्ट रूप से यह साबित किया कि हेटरोजाइगोज (विषमयुग्मनज) स्थिति में... प्रतिसारी समयुग्मनजो विशेषताएं नहीं दिखाई देती, बल्कि प्रतिसारी समयुग्मनजों (मोटे मटरों) में दिखाई देती है। शुद्ध नस्ल के विपरीत किस्मों के क्रॉस में, हम दो प्रकार से एफ F2 प्रोजेनी (नातिन संतान) को चिन्हित कर सकते हैं। फेनोटाइप तीन व्यक्तियों को चार में से लंबे के रूप में वर्गीकृत करता है, जबकि जीनोटाइप दो संकर (Tt) की पहचान करता है आनुवंशिक रूप से F2 पीढ़ी 1 TT, 2 Tt और 1 tt से मिलकर बनी है। फिनोटाइप और जीनोटाइप शब्द इसलिए जीन (या मेंडेलियन कारक) की दृश्य अभिव्यक्ति और एक व्यक्ति के वास्तविक आनुवंशिक संविधान को क्रमशः संदर्भित करते हैं। मेंडल महत्वपूर्ण तथ्य की खोज करता है, कि F1 संकर में, माता-पिता की विशेषताएँ (या कारक या युग्म विकल्प) खोए नहीं थे या मध्यवर्ती उत्पादन करने के लिए मिश्रित नहीं हो, बल्कि यह कारक या तत्व पृथक रहते हैं। हाईब्रिडों में इन जेनेटिक तत्वों को नहीं मिलना एवं उनके पृथक्करण (गैमेट युग्मक) में समान अनुपात में बने रहना) ही मेंडल का पृथक करण का सिद्धांत का पहला नियम है।

मेंडल ने निम्नलिखित मटर के पौधों को अपने अनुप्रयोग के लिए चुना था।

- (1) लंबे एवं छोटे
- (2) सभी लंबे पौधों को
- (3) सभी छोटे पौधों को
- (4) सभी मध्यम आकार वाले

Options :

212807125701. 1
212807125702. 2
212807125703. 3
212807125704. 4

Question Number : 147 Question Id : 21280731427 Question Type : MCQ Option Shuffling : No Is Question Mandatory : No Calculator : None Response Time : N.A Think Time : N.A Minimum Instruction Time : 0

Correct Marks : 5 Wrong Marks : 1

Question Key Details :

Key	Value
Comprehension	Comp2

Read the passage given below and answer the question.

Mendel's experiment with tall and dwarf peas, therefore, showed both homozygous and heterozygous zygotes. In pure tall variety, two factors (alleles) remain identical forming TT combination. Similarly, the pure dwarf variety shows tt combination. The hybrid tall plants of the first filial generation (F1) carry two unlike factors, Tt. Mendel in his experiment clearly established the fact that the recessive characters are not expressed in heterozygous condition, but will be expressed in recessive homozygotes (dwarf pea). In a cross between true-breed contrasting varieties, we can classify F2 progeny (grandchildren progeny) in two ways, either according to their appearance (phenotype) or according to their genetic composition (genotype). The phenotype classifies three individuals as tall out of four, whereas genotype identifies two hybrids (Tt) among the tall. Genotypically the F2 generation is composed of 1 TT, 2 Tt and 1 tt. The terms *phenotype* and *genotype* therefore refer to the visible expression of the genes (or Mendelian factors) and the actual genetic constitution of an individual respectively. Mendel discovered the important fact, that in the F1 hybrids, the parental characteristics (or factors or alleles) were not lost or mixed to produce the intermediates, rather the factors or alleles remain segregated. This non-mixing of alleles in the hybrid and their subsequent segregation (equal proportion is maintained in the gamete) is *principle of Segregation of Mendel's first law*.

The composition of plants in F2 generation :

- (1) 2 tt, 2 TT and 1 tt
- (2) 1 Tt, 2 TT and 1 tt
- (3) 2 Tt, 1 TT and 1 tt
- (4) 1 TT, 2 Tt and 1 tt

Options :

- 212807125705. 1
- 212807125706. 2
- 212807125707. 3
- 212807125708. 4

Question Number : 147 Question Id : 21280731427 Question Type : MCQ Option Shuffling : No Is Question Mandatory : No Calculator : None Response Time : N.A Think Time : N.A Minimum Instruction Time : 0

Correct Marks : 5 Wrong Marks : 1

Question Key Details :

Key	Value
Comprehension	Comp2

निम्नलिखित गद्यांश को पढ़कर प्रश्नों के उत्तर दीजिए :

लम्बे एवं छोटे मटर के ऊपर मेंडल के अनुप्रयोग ने दोनो ही समयुग्मक (होमोजाइग) एवं विषमयुग्मजी (हेटरोजाइगोज)को दिखाया। शुद्ध संस्करण लम्हें में, दो कारक (युग्म विकल्पों) TT संयोजन से समान रहते हैं। इस प्रकार, केवल बौने प्रकार में tt संयोजन दिखा। पहले संतानोचित पीढ़ी (F1) के मिश्रित लंबे पौधों में दो भिन्न-भिन्न तत्व थे, Tt मेंडल ने अपने अनुप्रयोग में स्पष्ट रूप से यह साबित किया कि हेटरोजाइगोज (विषमयुग्मनज) स्थिति में... प्रतिसारी समयुग्मनजो विशेषताएं नहीं दिखाई देती, बल्कि प्रतिसारी समयुग्मनजों (मोटे मटरों) में दिखाई देती है। शुद्ध नस्ल के विपरीत किस्मों के क्रॉस में, हम दो प्रकार से एफ F2 प्रोजेनी (नातिन संतान) को चिन्हित कर सकते हैं। फेनोटाइप तीन व्यक्तियों को चार में से लंबे के रूप में वर्गीकृत करता है, जबकि जीनोटाइप दो संकर (Tt) की पहचान करता है आनुवंशिक रूप से F2 पीढ़ी 1 TT, 2 Tt और 1 tt से मिलकर बनी है। फिनोटाइप और जीनोटाइप शब्द इसलिए जीन (या मेंडेलियन कारक) की दृश्य अभिव्यक्ति और एक व्यक्ति के वास्तविक आनुवंशिक संविधान को क्रमशः संदर्भित करते हैं। मेंडल महत्वपूर्ण तथ्य की खोज करता है, कि F1 संकर में, माता-पिता की विशेषताएँ (या कारक या युग्म विकल्पी) खोए नहीं थे या मध्यवर्ती उत्पादन करने के लिए मिश्रित नहीं हो, बल्कि यह कारक या तत्व पृथक रहते हैं। हाईब्रिडों में इन जेनेटिक तत्वों को नहीं मिलना एवं उनके पृथक्करण (गैमेट युग्मक) में समान अनुपात में बने रहना) ही मेंडल का पृथक्करण का सिद्धांत का पहला नियम है।

एफ 2 पीढ़ी में पौधों की बनावट होती है :

- (1) 2 टीटी tt, 2 टीटी TT एवं 1 टीटी tt
- (2) 1 टीटी Tt, 2 टीटी TT एवं 1 टीटी tt
- (3) 2 टीटी Tt, 1 टीटी TT एवं 1 टीटी tt
- (4) 1 टीटी TT, 2 टीटी Tt एवं 1 टीटी tt

Options :

212807125705. 1
212807125706. 2
212807125707. 3
212807125708. 4

Question Number : 148 Question Id : 21280731428 Question Type : MCQ Option Shuffling : No Is Question Mandatory : No Calculator : None Response Time : N.A Think Time : N.A Minimum Instruction Time : 0

Correct Marks : 5 Wrong Marks : 1

Question Key Details :

Key	Value
Comprehension	Comp2

Read the passage given below and answer the question.

Mendel's experiment with tall and dwarf peas, therefore, showed both homozygous and heterozygous zygotes. In pure tall variety, two factors (alleles) remain identical forming TT combination. Similarly, the pure dwarf variety shows tt combination. The hybrid tall plants of the first filial generation (F1) carry two unlike factors, Tt. Mendel in his experiment clearly established the fact that the recessive characters are not expressed in heterozygous condition, but will be expressed in recessive homozygotes (dwarf pea). In a cross between true-breed contrasting varieties, we can classify F2 progeny (grandchildren progeny) in two ways, either according to their appearance (phenotype) or according to their genetic composition (genotype). The phenotype classifies three individuals as tall out of four, whereas genotype identifies two hybrids (Tt) among the tall. Genotypically the F2 generation is composed of 1 TT, 2 Tt and 1 tt. The terms *phenotype* and *genotype* therefore refer to the visible expression of the genes (or Mendelian factors) and the actual genetic constitution of an individual respectively. Mendel discovered the important fact, that in the F1 hybrids, the parental characteristics (or factors or alleles) were not lost or mixed to produce the intermediates, rather the factors or alleles remain segregated. This non-mixing of alleles in the hybrid and their subsequent segregation (equal proportion is maintained in the gamete) is *principle of Segregation of Mendel's first law*.

Mendel's first law is also called as :

- (1) Law of Independent assortment
- (2) Law of Segregation
- (3) Law of Unity of gametes
- (4) Law of Impurity

Options :

- 212807125709. 1
- 212807125710. 2
- 212807125711. 3
- 212807125712. 4

Question Number : 148 Question Id : 21280731428 Question Type : MCQ Option Shuffling : No Is Question Mandatory : No Calculator : None
Response Time : N.A Think Time : N.A Minimum Instruction Time : 0

Correct Marks : 5 Wrong Marks : 1

Question Key Details :

Key	Value
Comprehension	Comp2

निम्नलिखित गद्यांश को पढ़कर प्रश्नों के उत्तर दीजिए :

लम्बे एवं छोटे मटर के ऊपर मेंडल के अनुप्रयोग ने दोनो ही समयुग्मक (होमोजाइग) एवं विषमयुग्मजी (हेटरोजाइगोज)को दिखाया। शुद्ध संस्करण लम्हें में, दो कारक (युग्म विकल्पों) TT संयोजन से समान रहते हैं। इस प्रकार, केवल बौने प्रकार में tt संयोजन दिखा। पहले संतानोचित पीढ़ी (F1) के मिश्रित लंबे पौधें में दो भिन्न-भिन्न तत्व थे, Tt मेंडल ने अपने अनुप्रयोग में स्पष्ट रूप से यह साबित किया कि हेटरोजाइगोज (विषमयुग्मनज) स्थिति में... प्रतिसारी समयुग्मनजो विशेषताएं नहीं दिखाई देती, बल्कि प्रतिसारी समयुग्मनजों (मोटे मटरों) में दिखाई देती है। शुद्ध नस्ल के विपरीत किस्मों के क्रॉस में, हम दो प्रकार से एफ F2 प्रोजेनी (नातिन संतान) को चिन्हित कर सकते हैं। फेनोटाइप तीन व्यक्तियों को चार में से लंबे के रूप में वर्गीकृत करता है, जबकि जीनोटाइप दो संकर (Tt) की पहचान करता है आनुवंशिक रूप से F2 पीढ़ी 1 TT, 2 Tt और 1 tt से मिलकर बनी है। फिनोटाइप और जीनोटाइप शब्द इसलिए जीन (या मेंडेलियन कारक) की दृश्य अभिव्यक्ति और एक व्यक्ति के वास्तविक आनुवंशिक संविधान को क्रमशः संदर्भित करते हैं। मेंडल महत्वपूर्ण तथ्य की खोज करता है, कि F1 संकर में, माता-पिता की विशेषताएँ (या कारक या युग्म विकल्पी) खोए नहीं थे या मध्यवर्ती उत्पादन करने के लिए मिश्रित नहीं हो, बल्कि यह कारक या तत्व पृथक रहते हैं। हाईब्रिडों में इन जेनेटिक तत्वों को नहीं मिलना एवं उनके पृथक्करण (गैमेट युग्मक) में समान अनुपात में बने रहना) ही मेंडल का पृथक करण का सिद्धांत का पहला नियम है।

मेंडल का पहला नियम को यह भी कहा जाता है।

- (1) स्वतंत्र अपव्यूहन का नियम
- (2) पृथक्करण का नियम
- (3) गैमेटों के एकीकरण का नियम
- (4) अशुद्धता का सिद्धांत

Options :

212807125709. 1
212807125710. 2
212807125711. 3
212807125712. 4

Question Number : 149 Question Id : 21280731429 Question Type : MCQ Option Shuffling : No Is Question Mandatory : No Calculator : None
Response Time : N.A Think Time : N.A Minimum Instruction Time : 0

Correct Marks : 5 Wrong Marks : 1

Question Key Details :

Key	Value
Comprehension	Comp2

Read the passage given below and answer the question.

Mendel's experiment with tall and dwarf peas, therefore, showed both homozygous and heterozygous zygotes. In pure tall variety, two factors (alleles) remain identical forming TT combination. Similarly, the pure dwarf variety shows tt combination. The hybrid tall plants of the first filial generation (F1) carry two unlike factors, Tt. Mendel in his experiment clearly established the fact that the recessive characters are not expressed in heterozygous condition, but will be expressed in recessive homozygotes (dwarf pea). In a cross between true-breed contrasting varieties, we can classify F2 progeny (grandchildren progeny) in two ways, either according to their appearance (phenotype) or according to their genetic composition (genotype). The phenotype classifies three individuals as tall out of four, whereas genotype identifies two hybrids (Tt) among the tall. Genotypically the F2 generation is composed of 1 TT, 2 Tt and 1 tt. The terms *phenotype* and *genotype* therefore refer to the visible expression of the genes (or Mendelian factors) and the actual genetic constitution of an individual respectively. Mendel discovered the important fact, that in the F1 hybrids, the parental characteristics (or factors or alleles) were not lost or mixed to produce the intermediates, rather the factors or alleles remain segregated. This non-mixing of alleles in the hybrid and their subsequent segregation (equal proportion is maintained in the gamete) is *principle of Segregation of Mendel's first law*.

Mendel's experiments showed :

- (1) Only Homozygous plants
- (2) Only Heterozygous plants
- (3) Both Homozygous and Heterozygous plants
- (4) Only Hemizygous plants

Options :

- 212807125713. 1
- 212807125714. 2
- 212807125715. 3
- 212807125716. 4

Question Number : 149 Question Id : 21280731429 Question Type : MCQ Option Shuffling : No Is Question Mandatory : No Calculator : None
Response Time : N.A Think Time : N.A Minimum Instruction Time : 0

Correct Marks : 5 Wrong Marks : 1

Question Key Details :

Key	Value
Comprehension	Comp2

निम्नलिखित गद्यांश को पढ़कर प्रश्नों के उत्तर दीजिए :

लम्बे एवं छोटे मटर के ऊपर मेंडल के अनुप्रयोग ने दोनो ही समयुग्मक (होमोजाइग) एवं विषमयुग्मजी (हेटरोजाइगोज)को दिखाया। शुद्ध संस्करण लम्हें में, दो कारक (युग्म विकल्पों) TT संयोजन से समान रहते हैं। इस प्रकार, केवल बौने प्रकार में tt संयोजन दिखा। पहले संतानोचित पीढ़ी (F1) के मिश्रित लंबे पौधों में दो भिन्न-भिन्न तत्व थे, Tt मेंडल ने अपने अनुप्रयोग में स्पष्ट रूप से यह साबित किया कि हेटरोजाइगोज (विषमयुग्मनज) स्थिति में... प्रतिसारी समयुग्मनजो विशेषताएं नहीं दिखाई देती, बल्कि प्रतिसारी समयुग्मनजों (मोटे मटरों) में दिखाई देती है। शुद्ध नस्ल के विपरीत किस्मों के क्रॉस में, हम दो प्रकार से एफ F2 प्रोजेनी (नातिन संतान) को चिन्हित कर सकते हैं। फेनोटाइप तीन व्यक्तियों को चार में से लंबे के रूप में वर्गीकृत करता है, जबकि जीनोटाइप दो संकर (Tt) की पहचान करता है आनुवंशिक रूप से F2 पीढ़ी 1 TT, 2 Tt और 1 tt से मिलकर बनी है। फिनोटाइप और जीनोटाइप शब्द इसलिए जीन (या मेंडेलियन कारक) की दृश्य अभिव्यक्ति और एक व्यक्ति के वास्तविक आनुवंशिक संविधान को क्रमशः संदर्भित करते हैं। मेंडल महत्वपूर्ण तथ्य की खोज करता है, कि F1 संकर में, माता-पिता की विशेषताएँ (या कारक या युग्म विकल्पी) खोए नहीं थे या मध्यवर्ती उत्पादन करने के लिए मिश्रित नहीं हो, बल्कि यह कारक या तत्व पृथक रहते हैं। हाईब्रिडों में इन जेनेटिक तत्वों को नहीं मिलना एवं उनके पृथक्करण (गैमेट युग्मक) में समान अनुपात में बने रहना) ही मेंडल का पृथक करण का सिद्धांत का पहला नियम है।

मेंडल का अनुप्रयोग दर्शाता है :

- (1) केवल समयुग्मक पौधों को
- (2) केवल विषमयुग्मक पौधों को
- (3) दोनों समयुग्मक एवं विषमयुग्मक पौधो को
- (4) केवल अर्धयुग्मजी पौधों को

Options :

212807125713. 1
212807125714. 2
212807125715. 3
212807125716. 4

Question Number : 150 Question Id : 21280731430 Question Type : MCQ Option Shuffling : No Is Question Mandatory : No Calculator : None
Response Time : N.A Think Time : N.A Minimum Instruction Time : 0

Correct Marks : 5 Wrong Marks : 1

Question Key Details :

Key	Value
Comprehension	Comp2

Read the passage given below and answer the question.

Mendel's experiment with tall and dwarf peas, therefore, showed both homozygous and heterozygous zygotes. In pure tall variety, two factors (alleles) remain identical forming TT combination. Similarly, the pure dwarf variety shows tt combination. The hybrid tall plants of the first filial generation (F1) carry two unlike factors, Tt. Mendel in his experiment clearly established the fact that the recessive characters are not expressed in heterozygous condition, but will be expressed in recessive homozygotes (dwarf pea). In a cross between true-breed contrasting varieties, we can classify F2 progeny (grandchildren progeny) in two ways, either according to their appearance (phenotype) or according to their genetic composition (genotype). The phenotype classifies three individuals as tall out of four, whereas genotype identifies two hybrids (Tt) among the tall. Genotypically the F2 generation is composed of 1 TT, 2 Tt and 1 tt. The terms *phenotype* and *genotype* therefore refer to the visible expression of the genes (or Mendelian factors) and the actual genetic constitution of an individual respectively. Mendel discovered the important fact, that in the F1 hybrids, the parental characteristics (or factors or alleles) were not lost or mixed to produce the intermediates, rather the factors or alleles remain segregated. This non-mixing of alleles in the hybrid and their subsequent segregation (equal proportion is maintained in the gamete) is *principle of Segregation of Mendel's first law*.

Mendel's factors are also called :

- (1) alleles
- (2) phenotypes
- (3) genotypes
- (4) traits

Options :

- 212807125717. 1
- 212807125718. 2
- 212807125719. 3
- 212807125720. 4

Question Number : 150 Question Id : 21280731430 Question Type : MCQ Option Shuffling : No Is Question Mandatory : No Calculator : None
Response Time : N.A Think Time : N.A Minimum Instruction Time : 0

Correct Marks : 5 Wrong Marks : 1

Question Key Details :

Key	Value
Comprehension	Comp2

निम्नलिखित गद्यांश को पढ़कर प्रश्नों के उत्तर दीजिए :

लम्बे एवं छोटे मटर के ऊपर मेंडल के अनुप्रयोग ने दोनो ही समयुग्मक (होमोजाइग) एवं विषमयुग्मजी (हेटरोजाइग) को दिखाया। शुद्ध संस्करण लम्बे में, दो कारक (युग्म विकल्पों) TT संयोजन से समान रहते हैं। इस प्रकार, केवल बौने प्रकार में tt संयोजन दिखा। पहले संतानोचित पीढ़ी (F1) के मिश्रित लंबे पौधों में दो भिन्न-भिन्न तत्व थे, Tt मेंडल ने अपने अनुप्रयोग में स्पष्ट रूप से यह साबित किया कि हेटरोजाइग (विषमयुग्मज) स्थिति में... प्रतिसारी समयुग्मजो विशेषताएं नहीं दिखाई देती, बल्कि प्रतिसारी समयुग्मजों (मोटे मटरों) में दिखाई देती है। शुद्ध नस्ल के विपरीत किस्मों के क्रॉस में, हम दो प्रकार से एफ F2 प्रोजेनी (नातिन संतान) को चिन्हित कर सकते हैं। फेनोटाइप तीन व्यक्तियों को चार में से लंबे के रूप में वर्गीकृत करता है, जबकि जीनोटाइप दो संकर (Tt) की पहचान करता है आनुवंशिक रूप से F2 पीढ़ी 1 TT, 2 Tt और 1 tt से मिलकर बनी है। फिनोटाइप और जीनोटाइप शब्द इसलिए जीन (या मेंडेलियन कारक) की दृश्य अभिव्यक्ति और एक व्यक्ति के वास्तविक आनुवंशिक संविधान को क्रमशः संदर्भित करते हैं। मेंडल महत्वपूर्ण तथ्य की खोज करता है, कि F1 संकर में, माता-पिता की विशेषताएँ (या कारक या युग्म विकल्पी) खोए नहीं थे या मध्यवर्ती उत्पादन करने के लिए मिश्रित नहीं हो, बल्कि यह कारक या तत्व पृथक रहते हैं। हाईब्रिडों में इन जेनेटिक तत्वों को नहीं मिलना एवं उनके पृथक्करण (गैमेट युग्मक) में समान अनुपात में बने रहना) ही मेंडल का पृथक्करण का सिद्धांत का पहला नियम है।

मेंडल के कारक को यह भी कहा जाता है :

- (1) युग्म विकल्पी (एलील)
- (2) फेनोटाइप
- (3) जेनोटाइप
- (4) विशेषता

Options :

212807125717. 1
212807125718. 2
212807125719. 3
212807125720. 4

Biology

Group Number :	10
Group Id :	212807734
Group Maximum Duration :	45
Group Minimum Duration :	45
Show Attended Group? :	No
Edit Attended Group? :	No
Break time :	0
Group Marks :	200
Is this Group for Examiner? :	No
Examiner permission :	Cant View
Show Progress Bar? :	No

Biology

Section Id :	212807864
Section Number :	1
Section type :	Online
Mandatory or Optional :	Mandatory
Number of Questions :	50
Number of Questions to be attempted :	40
Section Marks :	200
Enable Mark as Answered Mark for Review and Clear Response :	Yes
Maximum Instruction Time :	0

Sub-Section Number : 1
Sub-Section Id : 2128072490
Question Shuffling Allowed : Yes
Is Section Default? : null

Question Number : 151 Question Id : 21280731531 Question Type : MCQ Option Shuffling : No Is Question Mandatory : No Calculator : None
Response Time : N.A Think Time : N.A Minimum Instruction Time : 0

Correct Marks : 5 Wrong Marks : 1

Question Key Details :

Key	Value
Comprehension	MCQ

Cell division itself a mode of reproduction in organisms like :

- (A) Yeast
- (B) Amoeba
- (C) Paramecium
- (D) Fruitfly

Choose the correct answer from the options given below :

- (1) (A) Only
- (2) (B) & (D) Only
- (3) (D) Only
- (4) (A), (B) & (C) Only

Options :

212807126121. 1
212807126122. 2
212807126123. 3
212807126124. 4

Question Number : 151 Question Id : 21280731531 Question Type : MCQ Option Shuffling : No Is Question Mandatory : No Calculator : None
Response Time : N.A Think Time : N.A Minimum Instruction Time : 0

Correct Marks : 5 Wrong Marks : 1

Question Key Details :

Key	Value
Comprehension	MCQ

कोशिका विभाजन स्वयं में जीवों की जनन प्रणाली है जैसे :

- (A) यीस्ट
- (B) अमीबा
- (C) पैरामीसियम
- (D) फ्रूटफ्लाई

निम्नलिखित में से सही उत्तर का चयन कीजिए :

- (1) केवल (A)
- (2) केवल (B) और (D)
- (3) केवल (D)
- (4) केवल (A), (B) और (C)

Options :

212807126121. 1
212807126122. 2
212807126123. 3
212807126124. 4

Question Number : 152 Question Id : 21280731532 Question Type : MCQ Option Shuffling : No Is Question Mandatory : No Calculator : None
Response Time : N.A Think Time : N.A Minimum Instruction Time : 0

Correct Marks : 5 Wrong Marks : 1

Question Key Details :

Key	Value
Comprehension	MCQ

The vegetative propagate in Agave is called :

- (1) Leaf buds
- (2) Offset
- (3) Bulbil
- (4) Rhizome

Options :

212807126125. 1
212807126126. 2
212807126127. 3
212807126128. 4

Question Number : 152 Question Id : 21280731532 Question Type : MCQ Option Shuffling : No Is Question Mandatory : No Calculator : None
Response Time : N.A Think Time : N.A Minimum Instruction Time : 0

Correct Marks : 5 Wrong Marks : 1

Question Key Details :

Key	Value
Comprehension	MCQ

ऐगोव में कायिक प्रवर्धन को कहते है :

- (1) पत्र कलिका
- (2) भूस्तरिका
- (3) बुलबिल
- (4) प्रकंद

Options :

212807126125. 1
212807126126. 2
212807126127. 3
212807126128. 4

Question Number : 153 Question Id : 21280731533 Question Type : MCQ Option Shuffling : No Is Question Mandatory : No Calculator : None
Response Time : N.A Think Time : N.A Minimum Instruction Time : 0

Correct Marks : 5 Wrong Marks : 1

Question Key Details :

Key	Value
Comprehension	MCQ

In a typical angiosperm, the mature embryo sac is :

- (1) 8 nucleated, 7 celled
- (2) 7 nucleated, 8 celled
- (3) 7 nucleated, 7 celled
- (4) 8 nucleated, 8 celled

Options :

212807126129. 1
212807126130. 2
212807126131. 3
212807126132. 4

Question Number : 153 Question Id : 21280731533 Question Type : MCQ Option Shuffling : No Is Question Mandatory : No Calculator : None
Response Time : N.A Think Time : N.A Minimum Instruction Time : 0

Correct Marks : 5 Wrong Marks : 1

Question Key Details :

Key	Value
Comprehension	MCQ

ऐंजियोस्पर्म में पत्रव भ्रूण है :

- (1) 8 आर्केड्रित, 7 कोषिय
- (2) 7 आर्केड्रित, 8 कोषिय
- (3) 7 आर्केड्रित, 7 कोषिय
- (4) 8 आर्केड्रित, 8 कोषिय

Options :

212807126129. 1
212807126130. 2
212807126131. 3
212807126132. 4

Question Number : 154 Question Id : 21280731534 Question Type : MCQ Option Shuffling : No Is Question Mandatory : No Calculator : None
Response Time : N.A Think Time : N.A Minimum Instruction Time : 0

Correct Marks : 5 Wrong Marks : 1

Question Key Details :

Key	Value
Comprehension	MCQ

Maximum number of male gametes produced from one pollen mother cell (microspore mother cell) will be :

- (1) Two
- (2) Four
- (3) Eight
- (4) Sixteen

Options :

212807126133. 1
212807126134. 2
212807126135. 3
212807126136. 4

Question Number : 154 Question Id : 21280731534 Question Type : MCQ Option Shuffling : No Is Question Mandatory : No Calculator : None
Response Time : N.A Think Time : N.A Minimum Instruction Time : 0

Correct Marks : 5 Wrong Marks : 1

Question Key Details :

Key	Value
Comprehension	MCQ

एक लघुबीजाणु घानी मदा कोशिका से अधिकतम कितने नर युग्मक उत्पन्न होंगे :

- (1) दो
- (2) चार
- (3) आठ
- (4) सोलह

Options :

212807126133. 1
212807126134. 2
212807126135. 3
212807126136. 4

Question Number : 155 Question Id : 21280731535 Question Type : MCQ Option Shuffling : No Is Question Mandatory : No Calculator : None
Response Time : N.A Think Time : N.A Minimum Instruction Time : 0

Correct Marks : 5 Wrong Marks : 1

Question Key Details :

Key	Value
Comprehension	MCQ

Which of the following hormone is not secreted by placenta ?

- (1) Estrogens
- (2) Progestogens
- (3) Relaxin
- (4) Human chorionic gonadotropin

Options :

212807126137. 1
212807126138. 2
212807126139. 3
212807126140. 4

Question Number : 155 Question Id : 21280731535 Question Type : MCQ Option Shuffling : No Is Question Mandatory : No Calculator : None
Response Time : N.A Think Time : N.A Minimum Instruction Time : 0

Correct Marks : 5 Wrong Marks : 1

Question Key Details :

Key	Value
Comprehension	MCQ

निम्नलिखित में है कौन सा हार्मोन से सत्तावित नहीं होता है ?

- (1) ऐस्ट्रोजन
- (2) प्रोजेस्टोजन
- (3) रिलेक्सिन
- (4) मानव जरायु गोनाडोट्रोपिन

Options :

212807126137. 1
212807126138. 2
212807126139. 3
212807126140. 4

Question Number : 156 Question Id : 21280731536 Question Type : MCQ Option Shuffling : No Is Question Mandatory : No Calculator : None
Response Time : N.A Think Time : N.A Minimum Instruction Time : 0

Correct Marks : 5 Wrong Marks : 1

Question Key Details :

Key	Value
Comprehension	MCQ

Which one of the following is NOT the function of Leyding cells ?

- (1) Synthesis Androgens
- (2) Secretes Androgens
- (3) Immunologically competent cells are present in it
- (4) Stimulate secretion of some factors which help in the process of Spermiogenesis

Options :

212807126141. 1
212807126142. 2
212807126143. 3
212807126144. 4

Question Number : 156 Question Id : 21280731536 Question Type : MCQ Option Shuffling : No Is Question Mandatory : No Calculator : None
Response Time : N.A Think Time : N.A Minimum Instruction Time : 0

Correct Marks : 5 Wrong Marks : 1

Question Key Details :

Key	Value
Comprehension	MCQ

निम्नलिखित में से कौन सा हार्मोन लीडिंग कोशिका का कार्य नहीं है ?

- (1) ऐन्ड्रोजन संश्लेषण
- (2) ऐन्ड्रोजन स्रवण
- (3) प्रतिरक्षी समर्थ कोशिकाएं उपस्थित होती हैं
- (4) कुछ उद्दीपन कारक स्त्रावक शुक्राणुजनन की प्रक्रिया में सहायक होते हैं।

Options :

212807126141. 1
212807126142. 2
212807126143. 3
212807126144. 4

Question Number : 157 Question Id : 21280731537 Question Type : MCQ Option Shuffling : No Is Question Mandatory : No Calculator : None
Response Time : N.A Think Time : N.A Minimum Instruction Time : 0

Correct Marks : 5 Wrong Marks : 1

Question Key Details :

Key	Value
Comprehension	MCQ

Which one of the following is most widely accepted method of contraception in India ?

- (1) Vasectomy
- (2) Coitus interruptus
- (3) IUDs
- (4) Implants

Options :

212807126145. 1
212807126146. 2
212807126147. 3
212807126148. 4

Question Number : 157 Question Id : 21280731537 Question Type : MCQ Option Shuffling : No Is Question Mandatory : No Calculator : None
Response Time : N.A Think Time : N.A Minimum Instruction Time : 0

Correct Marks : 5 Wrong Marks : 1

Question Key Details :

Key	Value
Comprehension	MCQ

निम्नलिखित में से कौन सा गर्भनिरोधक साधन भारत में सर्वमान्य है ?

- (1) शुक्रवाहक-उच्छेदन
- (2) कोईटस अंतरायन
- (3) इंटरा यूटेराइन ट्रांसफर
- (4) अंतर्रौप

Options :

212807126145. 1
212807126146. 2
212807126147. 3
212807126148. 4

Question Number : 158 Question Id : 21280731538 Question Type : MCQ Option Shuffling : No Is Question Mandatory : No Calculator : None
Response Time : N.A Think Time : N.A Minimum Instruction Time : 0

Correct Marks : 5 Wrong Marks : 1

Question Key Details :

Key	Value
Comprehension	MCQ

Which one among the following contraceptive, inhibits ovulation and implantation of female reproductive system ?

- (1) Oral pills
- (2) Lippes loop
- (3) Condoms
- (4) Tubectomy

Options :

212807126149. 1
212807126150. 2
212807126151. 3
212807126152. 4

Question Number : 158 Question Id : 21280731538 Question Type : MCQ Option Shuffling : No Is Question Mandatory : No Calculator : None
Response Time : N.A Think Time : N.A Minimum Instruction Time : 0

Correct Marks : 5 Wrong Marks : 1

Question Key Details :

Key	Value
Comprehension	MCQ

निम्नलिखित में से कौन सी बंध्यकरण विधि अंडजनन और मादा जनन तंत्र का रोपण करते हैं ?

- (1) मुख की गोलियां
- (2) लिप्पेस लूप
- (3) निरोध
- (4) नलिका उच्छेदन

Options :

212807126149. 1
212807126150. 2
212807126151. 3
212807126152. 4

Question Number : 159 Question Id : 21280731539 Question Type : MCQ Option Shuffling : No Is Question Mandatory : No Calculator : None
Response Time : N.A Think Time : N.A Minimum Instruction Time : 0

Correct Marks : 5 Wrong Marks : 1

Question Key Details :

Key	Value
Comprehension	MCQ

The genetic disorder caused due to presence of an additional copy of the chromosome number 21 is :

- (1) Down's syndrome
- (2) Klinefelter syndrome
- (3) Turner's syndrome
- (4) Haemophilia

Options :

212807126153. 1
212807126154. 2
212807126155. 3
212807126156. 4

Question Number : 159 Question Id : 21280731539 Question Type : MCQ Option Shuffling : No Is Question Mandatory : No Calculator : None
Response Time : N.A Think Time : N.A Minimum Instruction Time : 0

Correct Marks : 5 Wrong Marks : 1

Question Key Details :

Key	Value
Comprehension	MCQ

वह आनुवांशिक विकार जो 21 वें गुणसूत्र को प्रतिलिपि के कारण होता है :

- (1) डाउन सिंड्रोम
- (2) क्लाइन फेल्टर सिंड्रोम
- (3) टर्नर सिंड्रोम
- (4) हीमोफीलिया

Options :

212807126153. 1
212807126154. 2
212807126155. 3
212807126156. 4

Question Number : 160 Question Id : 21280731540 Question Type : MCQ Option Shuffling : No Is Question Mandatory : No Calculator : None
Response Time : N.A Think Time : N.A Minimum Instruction Time : 0

Correct Marks : 5 Wrong Marks : 1

Question Key Details :

Key	Value
Comprehension	MCQ

In a garden pea, the axial flower is dominant to terminal flower. What will be the percentage of offsprings with terminal flowers, when two heterozygous plants are crossed ?

- (1) 25 %
- (2) 50 %
- (3) 75 %
- (4) 0 %

Options :

212807126157. 1
212807126158. 2
212807126159. 3
212807126160. 4

Question Number : 160 Question Id : 21280731540 Question Type : MCQ Option Shuffling : No Is Question Mandatory : No Calculator : None
Response Time : N.A Think Time : N.A Minimum Instruction Time : 0

Correct Marks : 5 Wrong Marks : 1

Question Key Details :

Key	Value
Comprehension	MCQ

एक मटर के बांग में, अक्षीय पुष्प, अंतिम पुष्प से अधिक प्रभावी है। अंतिम पुष्प वाली संतति का क्या प्रतिशत होगा, यदि दो विषम युग्मजी पौधों को क्रॉस किया गया है?

- (1) 25 %
- (2) 50 %
- (3) 75 %
- (4) 0 %

Options :

212807126157. 1
212807126158. 2
212807126159. 3
212807126160. 4

Question Number : 161 Question Id : 21280731541 Question Type : MCQ Option Shuffling : No Is Question Mandatory : No Calculator : None
Response Time : N.A Think Time : N.A Minimum Instruction Time : 0

Correct Marks : 5 Wrong Marks : 1

Question Key Details :

Key	Value
Comprehension	MCQ

A classical example of mutation arise due to change in a single base pair of DNA is :

- (1) Sickle cell anaemia
- (2) Thalassemia
- (3) Colour blindness
- (4) Cystic fibrosis

Options :

212807126161. 1

212807126162. 2

212807126163. 3

212807126164. 4

Question Number : 161 Question Id : 21280731541 Question Type : MCQ Option Shuffling : No Is Question Mandatory : No Calculator : None
Response Time : N.A Think Time : N.A Minimum Instruction Time : 0

Correct Marks : 5 Wrong Marks : 1

Question Key Details :

Key	Value
Comprehension	MCQ

एवं चिर प्रतिष्ठित उत्परिवर्तन का उदाहरण डी.एन.ए के एक क्षारीय यग्म के कारण है?

- (1) दात्र कौशिका अरक्तता
- (2) थैलासीमिया
- (3) वर्णाधता
- (4) सिस्टिक फाइब्रोसिस

Options :

212807126161. 1

212807126162. 2

212807126163. 3

212807126164. 4

Question Number : 162 Question Id : 21280731542 Question Type : MCQ Option Shuffling : No Is Question Mandatory : No Calculator : None
Response Time : N.A Think Time : N.A Minimum Instruction Time : 0

Correct Marks : 5 Wrong Marks : 1

Question Key Details :

Key	Value
Comprehension	MCQ

The steps of DNA fingerprinting are given below. Arrange them in a correct sequence.

- (A) Separation of DNA fragments by electrophoresis
- (B) Hybridisation using labelled VNTR probe
- (C) Isolation and digestion of DNA
- (D) Detection of hybridised DNA fragments by autoradiography
- (E) Transferring of separated DNA fragments to synthetic membranes

Choose the correct answer from the options given below :

- (1) (C), (B), (A), (E), (D)
- (2) (A), (C), (D), (B), (E)
- (3) (C), (A), (E), (B), (D)
- (4) (B), (E), (D), (A), (C)

Options :

- 212807126165. 1
- 212807126166. 2
- 212807126167. 3
- 212807126168. 4

Question Number : 162 Question Id : 21280731542 Question Type : MCQ Option Shuffling : No Is Question Mandatory : No Calculator : None Response Time : N.A Think Time : N.A Minimum Instruction Time : 0

Correct Marks : 5 Wrong Marks : 1

Question Key Details :

Key	Value
Comprehension	MCQ

निम्नलिखित पदों में डी एन ए अगुलिछापी पूर्ण होती है। सही आरोही क्रम में व्यवस्थित कीजिए।

- (A) इलेक्ट्रोफोरेसिस द्वारा डी.एन.ए. खंडों का पृथक्करण
- (B) चिन्हित वी.एन.टी.आर प्रोब का उपयोग करते हुए संकरण
- (C) डी.एन.ए. का विलगन और पाचन
- (D) स्वविकिरणी चित्रण द्वारा संकरित डी.एन.ए. खंडों का पता लगाना
- (E) पृथक्करण, डी.एन.ए. खंडों का संश्लेषित झिल्ली द्वारा

निम्नलिखित विकल्पों में से सही उत्तर का चयन कीजिए :

- (1) (A), (B), (A), (E), (D)
- (2) (A), (C), (D), (B), (E)
- (3) (C), (A), (E), (B), (D)
- (4) (B), (E), (D), (A), (C)

Options :

- 212807126165. 1
- 212807126166. 2
- 212807126167. 3
- 212807126168. 4

Question Number : 163 Question Id : 21280731543 Question Type : MCQ Option Shuffling : No Is Question Mandatory : No Calculator : None Response Time : N.A Think Time : N.A Minimum Instruction Time : 0

Correct Marks : 5 Wrong Marks : 1

Question Key Details :

Key	Value
Comprehension	MCQ

Match List - I with List - II.

- | List - I | List - II |
|------------------------|---------------------------|
| (A) RNA Polymerase II | (I) 28 srRNA |
| (B) RNA Polymerase I | (II) hn RNA |
| (C) Ribosome | (III) 5 srRNA |
| (D) RNA Polymerase III | (IV) 23 srRNA in bacteria |

Choose the correct answer from the options given below :

- (1) (A)-(III), (B)-(II), (C)-(I), (D)-(IV)
- (2) (A)-(II), (B)-(IV), (C)-(III), (D)-(I)
- (3) (A)-(II), (B)-(I), (C)-(IV), (D)-(III)
- (4) (A)-(IV), (B)-(III), (C)-(II), (D)-(I)

Options :

212807126169. 1
212807126170. 2
212807126171. 3
212807126172. 4

Question Number : 163 Question Id : 21280731543 Question Type : MCQ Option Shuffling : No Is Question Mandatory : No Calculator : None Response Time : N.A Think Time : N.A Minimum Instruction Time : 0

Correct Marks : 5 Wrong Marks : 1

Question Key Details :

Key	Value
Comprehension	MCQ

सूची - I का सूची - II से मिलान करें।

- | सूची - I | सूची - II |
|----------------------|--------------------------|
| (A) RNA पॉलीमरेज II | (I) 28 srRNA |
| (B) RNA पॉलीमरेज I | (II) hn RNA |
| (C) राइबोजाइम | (III) 5 srRNA |
| (D) RNA पॉलीमरेज III | (IV) 23 srRNA जीवाणु में |

निम्नलिखित विकल्पों में से सही उत्तर का चयन कीजिए :

- (1) (A)-(III), (B)-(II), (C)-(I), (D)-(IV)
- (2) (A)-(II), (B)-(IV), (C)-(III), (D)-(I)
- (3) (A)-(II), (B)-(I), (C)-(IV), (D)-(III)
- (4) (A)-(IV), (B)-(III), (C)-(II), (D)-(I)

Options :

212807126169. 1
212807126170. 2
212807126171. 3
212807126172. 4

Question Number : 164 Question Id : 21280731544 Question Type : MCQ Option Shuffling : No Is Question Mandatory : No Calculator : None Response Time : N.A Think Time : N.A Minimum Instruction Time : 0

Correct Marks : 5 Wrong Marks : 1

Question Key Details :

Key	Value
Comprehension	MCQ

The size of VNTR varies from :

- (1) 0.1 to 20 kb
- (2) 0.2 to 10 bp
- (3) 0.1 to 10 kb
- (4) 0.2 to 20 kb

Options :

- 212807126173. 1
- 212807126174. 2
- 212807126175. 3
- 212807126176. 4

Question Number : 164 Question Id : 21280731544 Question Type : MCQ Option Shuffling : No Is Question Mandatory : No Calculator : None Response Time : N.A Think Time : N.A Minimum Instruction Time : 0

Correct Marks : 5 Wrong Marks : 1

Question Key Details :

Key	Value
Comprehension	MCQ

VNTR का आकार परिवर्तित होता है :

- (1) 0.1 से 20 kb
- (2) 0.2 से 10 bp
- (3) 0.1 से 10 kb
- (4) 0.2 से 20 kb

Options :

- 212807126173. 1
- 212807126174. 2
- 212807126175. 3
- 212807126176. 4

Question Number : 165 Question Id : 21280731545 Question Type : MCQ Option Shuffling : No Is Question Mandatory : No Calculator : None Response Time : N.A Think Time : N.A Minimum Instruction Time : 0

Correct Marks : 5 Wrong Marks : 1

Question Key Details :

Key	Value
Comprehension	MCQ

Brain capacities of *Homo erectus* was around :

- (1) 900 cc
- (2) 650 - 800 cc
- (3) 1400 cc
- (4) 650 cc

Options :

- 212807126177. 1
- 212807126178. 2
- 212807126179. 3
- 212807126180. 4

Question Number : 165 Question Id : 21280731545 Question Type : MCQ Option Shuffling : No Is Question Mandatory : No Calculator : None Response Time : N.A Think Time : N.A Minimum Instruction Time : 0

Correct Marks : 5 Wrong Marks : 1

Question Key Details :

Key	Value
Comprehension	MCQ

होमो इस्ट्रक्टस का मस्तिष्क अनुमानित था :

- (1) 900 cc
- (2) 650 - 800 cc
- (3) 1400 cc
- (4) 650 cc

Options :

212807126177. 1
212807126178. 2
212807126179. 3
212807126180. 4

Question Number : 166 Question Id : 21280731546 Question Type : MCQ Option Shuffling : No Is Question Mandatory : No Calculator : None
Response Time : N.A Think Time : N.A Minimum Instruction Time : 0

Correct Marks : 5 Wrong Marks : 1

Question Key Details :

Key	Value
Comprehension	MCQ

In Miller's experiment, the closed flask contained :

- (1) C_2H_6 , H_2 , N_2O and NH_3
- (2) CH_4 , H_2 , NH_3 and H_2O
- (3) CH_4 , O_2 , NO_2 and H_2O
- (4) CO_2 , H_2O , NH_3 and O_2

Options :

212807126181. 1
212807126182. 2
212807126183. 3
212807126184. 4

Question Number : 166 Question Id : 21280731546 Question Type : MCQ Option Shuffling : No Is Question Mandatory : No Calculator : None
Response Time : N.A Think Time : N.A Minimum Instruction Time : 0

Correct Marks : 5 Wrong Marks : 1

Question Key Details :

Key	Value
Comprehension	MCQ

मिलर परीक्षण में बंद फ्लास्क में है :

- (1) C_2H_6 , H_2 , N_2O और NH_3
- (2) CH_4 , H_2 , NH_3 और H_2O
- (3) CH_4 , O_2 , NO_2 और H_2O
- (4) CO_2 , H_2O , NH_3 और O_2

Options :

212807126181. 1
212807126182. 2
212807126183. 3
212807126184. 4

Question Number : 167 Question Id : 21280731547 Question Type : MCQ Option Shuffling : No Is Question Mandatory : No Calculator : None
Response Time : N.A Think Time : N.A Minimum Instruction Time : 0

Correct Marks : 5 Wrong Marks : 1

Question Key Details :

Key	Value
Comprehension	MCQ

Select the factor which does not affect Hardy-Weinberg Equilibrium ?

- (1) Genetic drift
- (2) Mutation
- (3) Genetic recombination
- (4) Random mating

Options :

212807126185. 1
212807126186. 2
212807126187. 3
212807126188. 4

Question Number : 167 Question Id : 21280731547 Question Type : MCQ Option Shuffling : No Is Question Mandatory : No Calculator : None
Response Time : N.A Think Time : N.A Minimum Instruction Time : 0

Correct Marks : 5 Wrong Marks : 1

Question Key Details :

Key	Value
Comprehension	MCQ

उस घटक का चयन कीजिए जिससे हार्डी विनबर्ग साम्यावस्था प्रभावित नहीं होती :

- (1) अनुवांशिक अपवाह
- (2) उत्परिवर्तन
- (3) अनुवांशिक पुनः संयोजन
- (4) अनियमित मैथुन

Options :

212807126185. 1
212807126186. 2
212807126187. 3
212807126188. 4

Question Number : 168 Question Id : 21280731548 Question Type : MCQ Option Shuffling : No Is Question Mandatory : No Calculator : None
Response Time : N.A Think Time : N.A Minimum Instruction Time : 0

Correct Marks : 5 Wrong Marks : 1

Question Key Details :

Key	Value
Comprehension	MCQ

Match List - I with List - II.

List - I

Disease

- (A) Pneumonia
- (B) Typhoid
- (C) Malaria
- (D) Filariasis

List - II

Pathogen

- (I) *Salmonella typhi*
- (II) *Plasmodium falciparum*
- (III) *Wuchereria bancrofti*
- (IV) *Haemophilus influenzae*

Choose the correct answer from the options given below :

- (1) (A)-(I), (B)-(IV), (C)-(III), (D)-(II)
- (2) (A)-(IV), (B)-(I), (C)-(II), (D)-(III)
- (3) (A)-(IV), (B)-(III), (C)-(I), (D)-(II)
- (4) (A)-(III), (B)-(I), (C)-(IV), (D)-(II)

Options :

212807126189. 1
212807126190. 2

212807126191. 3
212807126192. 4

Question Number : 168 Question Id : 21280731548 Question Type : MCQ Option Shuffling : No Is Question Mandatory : No Calculator : None
Response Time : N.A Think Time : N.A Minimum Instruction Time : 0
Correct Marks : 5 Wrong Marks : 1

Question Key Details :

Key	Value
Comprehension	MCQ

सूची - I का सूची - II से मिलान करें।

सूची - I	सूची - II
रोग	प्याथोजन
(A) न्युमोनिया	(I) साल्मोनेला टायफि
(B) टायफॉइड	(II) प्लाज्मोडियम फैल्सिपेरम
(C) मलेरिया	(III) वुकेरिया बेन्क्रोफिट
(D) फाईलेरियसिस	(IV) हिपोफिलस इंप्लूएँजी

निम्नलिखित विकल्पों में से सही उत्तर का चयन कीजिए :

- (1) (A)-(I), (B)-(IV), (C)-(III), (D)-(II)
- (2) (A)-(IV), (B)-(I), (C)-(II), (D)-(III)
- (3) (A)-(IV), (B)-(III), (C)-(I), (D)-(II)
- (4) (A)-(III), (B)-(I), (C)-(IV), (D)-(II)

Options :

212807126189. 1
212807126190. 2
212807126191. 3
212807126192. 4

Question Number : 169 Question Id : 21280731549 Question Type : MCQ Option Shuffling : No Is Question Mandatory : No Calculator : None
Response Time : N.A Think Time : N.A Minimum Instruction Time : 0
Correct Marks : 5 Wrong Marks : 1

Question Key Details :

Key	Value
Comprehension	MCQ

The symptoms of Elephantiasis :

- (A) Inflammation of lower limb
- (B) Scaly lesions on scalp
- (C) Anaemia and blockage of intestinal passage
- (D) Gross deformities of genital organs

Choose the correct answer from the options given below :

- (1) (A) Only
- (2) (B) and (C) Only
- (3) (C) and (D) Only
- (4) (A) and (D) Only

Options :

212807126193. 1
212807126194. 2
212807126195. 3
212807126196. 4

Question Number : 169 Question Id : 21280731549 Question Type : MCQ Option Shuffling : No Is Question Mandatory : No Calculator : None
Response Time : N.A Think Time : N.A Minimum Instruction Time : 0

Correct Marks : 5 Wrong Marks : 1

Question Key Details :

Key	Value
Comprehension	MCQ

हस्तिपाद रोग के लक्षण :

- (A) नीचे के अंग में सूजन
- (B) शिरोवल्क पर शल्की विक्षतियां
- (C) अरक्तता और आंत्र मार्ग का आवरुद्ध होना
- (D) जननांगों का पूर्णतियां विकृत होना

निम्नलिखित विकल्पों में से सही उत्तर का चयन कीजिए :

- (1) केवल (A)
- (2) केवल (B) और (C)
- (3) केवल (C) और (D)
- (4) केवल (A) और (D)

Options :

212807126193. 1

212807126194. 2

212807126195. 3

212807126196. 4

Question Number : 170 Question Id : 21280731550 Question Type : MCQ Option Shuffling : No Is Question Mandatory : No Calculator : None
Response Time : N.A Think Time : N.A Minimum Instruction Time : 0

Correct Marks : 5 Wrong Marks : 1

Question Key Details :

Key	Value
Comprehension	MCQ

Antibody molecule is made up of four peptide chain called as light and heavy chain are joined together by :

- (1) Peptide bond
- (2) Phospho diester bond
- (3) Glycosidic bond
- (4) Disulfide bond

Options :

212807126197. 1

212807126198. 2

212807126199. 3

212807126200. 4

Question Number : 170 Question Id : 21280731550 Question Type : MCQ Option Shuffling : No Is Question Mandatory : No Calculator : None
Response Time : N.A Think Time : N.A Minimum Instruction Time : 0

Correct Marks : 5 Wrong Marks : 1

Question Key Details :

Key	Value
Comprehension	MCQ

प्रतिरक्षियों के अणु चार पेप्टाइड श्रृंखलाओं से मिलाकर बने हैं जो हल्के हैं आपस में मिलकर भारी श्रृंखला बनाते हैं :

- (1) पेप्टाइड बंध
- (2) फॉस्फोडॉयस्टर बंध
- (3) ग्लायकोसिडिक बंध
- (4) डाईसल्फाइड बंध

Options :

212807126197. 1
212807126198. 2
212807126199. 3
212807126200. 4

Question Number : 171 Question Id : 21280731551 Question Type : MCQ Option Shuffling : No Is Question Mandatory : No Calculator : None
Response Time : N.A Think Time : N.A Minimum Instruction Time : 0

Correct Marks : 5 Wrong Marks : 1

Question Key Details :

Key	Value
Comprehension	MCQ

Match List - I with List - II.

List - I

- (A) Wheat
- (B) Cauliflower
- (C) Cowpea
- (D) Chilli

List - II

- (I) Pusa shubhra
- (II) Himgiri
- (III) Pusa sadabahar
- (IV) Pusa komal

Choose the correct answer from the options given below :

- (1) (A)-(I), (B)-(III), (C)-(II), (D)-(IV)
- (2) (A)-(II), (B)-(III), (C)-(IV), (D)-(I)
- (3) (A)-(III), (B)-(IV), (C)-(II), (D)-(I)
- (4) (A)-(II), (B)-(I), (C)-(IV), (D)-(III)

Options :

212807126201. 1
212807126202. 2
212807126203. 3
212807126204. 4

Question Number : 171 Question Id : 21280731551 Question Type : MCQ Option Shuffling : No Is Question Mandatory : No Calculator : None
Response Time : N.A Think Time : N.A Minimum Instruction Time : 0

Correct Marks : 5 Wrong Marks : 1

Question Key Details :

Key	Value
Comprehension	MCQ

सूची - I का सूची - II से मिलान करें।

सूची - I

सूची - II

- | | |
|------------|--------------------|
| (A) गेहूँ | (I) पूसा शुभ्रा |
| (B) गोभी | (II) हिमगिरि |
| (C) लोबिया | (III) पूसा सदाबहार |
| (D) मिर्च | (IV) पूसा कोमल |

निम्नलिखित विकल्पों में से सही उत्तर का चयन कीजिए :

- (1) (A)-(I), (B)-(III), (C)-(II), (D)-(IV)
- (2) (A)-(II), (B)-(III), (C)-(IV), (D)-(I)
- (3) (A)-(III), (B)-(IV), (C)-(II), (D)-(I)
- (4) (A)-(II), (B)-(I), (C)-(IV), (D)-(III)

Options :

212807126201. 1
212807126202. 2
212807126203. 3
212807126204. 4

Question Number : 172 Question Id : 21280731552 Question Type : MCQ Option Shuffling : No Is Question Mandatory : No Calculator : None
Response Time : N.A Think Time : N.A Minimum Instruction Time : 0

Correct Marks : 5 Wrong Marks : 1

Question Key Details :

Key	Value
Comprehension	MCQ

Which of the following is a wheat variety having high protein content ?

- (1) Sonalika
- (2) Atlas-66
- (3) Jaya
- (4) Ratna

Options :

212807126205. 1
212807126206. 2
212807126207. 3
212807126208. 4

Question Number : 172 Question Id : 21280731552 Question Type : MCQ Option Shuffling : No Is Question Mandatory : No Calculator : None
Response Time : N.A Think Time : N.A Minimum Instruction Time : 0

Correct Marks : 5 Wrong Marks : 1

Question Key Details :

Key	Value
Comprehension	MCQ

निम्नलिखित में से कौन सी गेहूँ की प्रजाती में प्रोटीन प्रचुर मात्रा में है ?

- (1) सोनालिका
- (2) ऐटलस-66
- (3) जया
- (4) रत्ना

Options :

212807126205. 1

212807126206. 2
212807126207. 3
212807126208. 4

Question Number : 173 Question Id : 21280731553 Question Type : MCQ Option Shuffling : No Is Question Mandatory : No Calculator : None
Response Time : N.A Think Time : N.A Minimum Instruction Time : 0

Correct Marks : 5 Wrong Marks : 1

Question Key Details :

Key	Value
Comprehension	MCQ

In mung bean, resistance to yellow mosaic virus and powdery mildew were induced by :

- (1) Hybridisation
- (2) Recombination
- (3) Micropropagation
- (4) Mutation

Options :

212807126209. 1
212807126210. 2
212807126211. 3
212807126212. 4

Question Number : 173 Question Id : 21280731553 Question Type : MCQ Option Shuffling : No Is Question Mandatory : No Calculator : None
Response Time : N.A Think Time : N.A Minimum Instruction Time : 0

Correct Marks : 5 Wrong Marks : 1

Question Key Details :

Key	Value
Comprehension	MCQ

मूंग बीन को, पीत मोजेईक विषाणु तथा पाउडरी मिल्ड्यू से प्रतिरोधी बनाने के लिए प्रेरित किया जाता है :

- (1) संकरीकरण
- (2) पुनसंयोजन
- (3) सक्षमप्रवर्धन
- (4) उत्परिवर्तन

Options :

212807126209. 1
212807126210. 2
212807126211. 3
212807126212. 4

Question Number : 174 Question Id : 21280731554 Question Type : MCQ Option Shuffling : No Is Question Mandatory : No Calculator : None
Response Time : N.A Think Time : N.A Minimum Instruction Time : 0

Correct Marks : 5 Wrong Marks : 1

Question Key Details :

Key	Value
Comprehension	MCQ

Match List - I with List - II.

List - I

- (A) *Aspergillus niger*
(B) *Trichoderma polysporum*
(C) *Lactobacillus*
(D) *Saccharomyces cerevisiae*

List - II

- (I) Cyclosporin - A
(II) Ethanol
(III) Citric acid
(IV) Lactic acid

Choose the correct answer from the options given below :

- (1) (A)-(III), (B)-(II), (C)-(I), (D)-(IV)
(2) (A)-(I), (B)-(II), (C)-(IV), (D)-(III)
(3) (A)-(I), (B)-(IV), (C)-(II), (D)-(III)
(4) (A)-(III), (B)-(I), (C)-(IV), (D)-(II)

Options :

212807126213. 1
212807126214. 2
212807126215. 3
212807126216. 4

Question Number : 174 Question Id : 21280731554 Question Type : MCQ Option Shuffling : No Is Question Mandatory : No Calculator : None
Response Time : N.A Think Time : N.A Minimum Instruction Time : 0

Correct Marks : 5 Wrong Marks : 1

Question Key Details :

Key	Value
Comprehension	MCQ

सूची - I का सूची - II से मिलान करें।

सूची - I

- (A) एस्पेरजिलस निजर
(B) ट्राइफोडर्मा पॉलीस्पोरम
(C) लैक्टोबेसिलस
(D) सैकरोमाइसीज सरविसी

सूची - II

- (I) साइक्लोस्पोरिन - A
(II) ऐथेनॉल
(III) सिट्रिक अम्ल
(IV) लैक्टिक अम्ल

निम्नलिखित विकल्पों में से सही उत्तर का चयन कीजिए :

- (1) (A)-(III), (B)-(II), (C)-(I), (D)-(IV)
(2) (A)-(I), (B)-(II), (C)-(IV), (D)-(III)
(3) (A)-(I), (B)-(IV), (C)-(II), (D)-(III)
(4) (A)-(III), (B)-(I), (C)-(IV), (D)-(II)

Options :

212807126213. 1
212807126214. 2
212807126215. 3
212807126216. 4

Question Number : 175 Question Id : 21280731555 Question Type : MCQ Option Shuffling : No Is Question Mandatory : No Calculator : None
Response Time : N.A Think Time : N.A Minimum Instruction Time : 0

Correct Marks : 5 Wrong Marks : 1

Question Key Details :

Key	Value
Comprehension	MCQ

Which of the following acts as bio fertilizer in paddy field ?

- (1) *Nostoc*
- (2) *Rhizobium*
- (3) *Azospirillum*
- (4) *Azotobacter*

Options :

212807126217. 1
212807126218. 2
212807126219. 3
212807126220. 4

Question Number : 175 Question Id : 21280731555 Question Type : MCQ Option Shuffling : No Is Question Mandatory : No Calculator : None
Response Time : N.A Think Time : N.A Minimum Instruction Time : 0

Correct Marks : 5 Wrong Marks : 1

Question Key Details :

Key	Value
Comprehension	MCQ

निम्नलिखित विकल्पों में से एक धान की खेती में जैव खाद का कार्य करते हैं ?

- (1) नॉस्टोक
- (2) राईजोबियम
- (3) ऐजोस्पारिलम
- (4) ऐजोटोबैक्टर

Options :

212807126217. 1
212807126218. 2
212807126219. 3
212807126220. 4

Question Number : 176 Question Id : 21280731556 Question Type : MCQ Option Shuffling : No Is Question Mandatory : No Calculator : None
Response Time : N.A Think Time : N.A Minimum Instruction Time : 0

Correct Marks : 5 Wrong Marks : 1

Question Key Details :

Key	Value
Comprehension	MCQ

The puffed-up appearance of dough is due to the production of :

- (1) Carbon dioxide gas
- (2) Alcohol
- (3) Acetic acid
- (4) Oxygen gas

Options :

212807126221. 1
212807126222. 2
212807126223. 3
212807126224. 4

Question Number : 176 Question Id : 21280731556 Question Type : MCQ Option Shuffling : No Is Question Mandatory : No Calculator : None
Response Time : N.A Think Time : N.A Minimum Instruction Time : 0

Correct Marks : 5 Wrong Marks : 1

Question Key Details :

Key	Value
Comprehension	MCQ

गुदाहुआ आटा, एक के उत्पादन के कारण फूलाउभरा प्रतित होता है ?

- (1) कार्बन डाई ऑक्साईड गैस
- (2) ऐल्कोहल
- (3) ऐसिटिक अम्ल
- (4) ऑक्सीजन गैस

Options :

212807126221. 1
212807126222. 2
212807126223. 3
212807126224. 4

Question Number : 177 Question Id : 21280731557 Question Type : MCQ Option Shuffling : No Is Question Mandatory : No Calculator : None
Response Time : N.A Think Time : N.A Minimum Instruction Time : 0

Correct Marks : 5 Wrong Marks : 1

Question Key Details :

Key	Value
Comprehension	MCQ

Arrange the following steps of gel electrophoresis in correct sequence :

- (A) Staining the DNA with ethidium bromide
- (B) Movement of DNA fragments towards anode under an electric field through agarose
- (C) Exposure to UV radiation
- (D) Separation of DNA fragments according to their size

Choose the **correct** answer from the options given below :

- (1) (B), (D), (A), (C)
- (2) (C), (A), (D), (B)
- (3) (B), (A), (C), (D)
- (4) (A), (D), (B), (C)

Options :

212807126225. 1
212807126226. 2
212807126227. 3
212807126228. 4

Question Number : 177 Question Id : 21280731557 Question Type : MCQ Option Shuffling : No Is Question Mandatory : No Calculator : None
Response Time : N.A Think Time : N.A Minimum Instruction Time : 0

Correct Marks : 5 Wrong Marks : 1

Question Key Details :

Key	Value
Comprehension	MCQ

जैल इलेक्ट्रोफोरेसिस के निम्नलिखित पदों को सही क्रमबद्ध करें :

- (A) DNA को ऐथीडियम ब्रोमाइड से अभिरजित करना
- (B) DNA सूत्र का ऐग्रोज की उपस्थिति में विद्युतक्षेत्र में ऐनोड की ओर गमन
- (C) पराबैंगनी विकिरण से सम्पर्क
- (D) डी.एन.ए. गुण सूत्रका उसके आकार के अनुसार प्रथक्करण

निम्नलिखित विकल्पों में से सही उत्तर का चयन कीजिए :

- (1) (B), (D), (A), (C)
- (2) (C), (A), (D), (B)
- (3) (B), (A), (C), (D)
- (4) (A), (D), (B), (C)

Options :

- 212807126225. 1
- 212807126226. 2
- 212807126227. 3
- 212807126228. 4

Question Number : 178 Question Id : 21280731558 Question Type : MCQ Option Shuffling : No Is Question Mandatory : No Calculator : None Response Time : N.A Think Time : N.A Minimum Instruction Time : 0

Correct Marks : 5 Wrong Marks : 1

Question Key Details :

Key	Value
Comprehension	MCQ

If a scientist wants to recover many copies of the target DNA through recombinant DNA technology, what augmentation need to be done in cloning vector ?

- (1) Reduce cloning sites
- (2) add origin of reparation (ori) that support high copy number
- (3) add more selectable maker
- (4) add more cloning sites

Options :

- 212807126229. 1
- 212807126230. 2
- 212807126231. 3
- 212807126232. 4

Question Number : 178 Question Id : 21280731558 Question Type : MCQ Option Shuffling : No Is Question Mandatory : No Calculator : None Response Time : N.A Think Time : N.A Minimum Instruction Time : 0

Correct Marks : 5 Wrong Marks : 1

Question Key Details :

Key	Value
Comprehension	MCQ

एक वैज्ञानिक DNA को केन्द्र में रखकर पुनर्योजन डी.एन.ए. तकनीक द्वारा अनेक प्रतिलिपिया प्राप्त करना चाहता है, उसे क्लोनिंग के लिए क्या संवर्धन करना चाहिए :

- (1) क्लोनिंग स्तल में कमी
- (2) अधिक प्रतिलिपि करने वाली रिपेरेशन (ओरी) को जोड़ना चाहिए।
- (3) अधिक वरणात्मक बनाना चाहिए
- (4) अधिक क्लोनिंग स्थलों को जोड़ना चाहिए

Options :

- 212807126229. 1

212807126230. 2
212807126231. 3
212807126232. 4

Question Number : 179 Question Id : 21280731559 Question Type : MCQ Option Shuffling : No Is Question Mandatory : No Calculator : None
Response Time : N.A Think Time : N.A Minimum Instruction Time : 0

Correct Marks : 5 Wrong Marks : 1

Question Key Details :

Key	Value
Comprehension	MCQ

The cell wall of a bacteria can be removed by treated it with enzyme :

- (1) Lysozyme
- (2) Cellulase
- (3) Chitinase
- (4) Pectinase

Options :

212807126233. 1
212807126234. 2
212807126235. 3
212807126236. 4

Question Number : 179 Question Id : 21280731559 Question Type : MCQ Option Shuffling : No Is Question Mandatory : No Calculator : None
Response Time : N.A Think Time : N.A Minimum Instruction Time : 0

Correct Marks : 5 Wrong Marks : 1

Question Key Details :

Key	Value
Comprehension	MCQ

जीवाणु की कोशिका भित्ति को एंजाइम की अभिक्रिया से निकाला जा सकता है :

- (1) लाईसोजाइम
- (2) सैलूलोज
- (3) काईटिनेज
- (4) पेक्टिनेज

Options :

212807126233. 1
212807126234. 2
212807126235. 3
212807126236. 4

Question Number : 180 Question Id : 21280731560 Question Type : MCQ Option Shuffling : No Is Question Mandatory : No Calculator : None
Response Time : N.A Think Time : N.A Minimum Instruction Time : 0

Correct Marks : 5 Wrong Marks : 1

Question Key Details :

Key	Value
Comprehension	MCQ

The gene encoding resistance to which antibiotic are considered useful selectable marker for *E. coli*.

- (A) ampicillin
- (B) tetracycline
- (C) kanamycin
- (D) penicillin
- (E) chloramphenicol

Choose the correct answer from the options given below :

- (1) (A) and (D) only
- (2) (B) and (C) only
- (3) (C) and (D) only
- (4) (A), (B), (C) and (E) only

Options :

- 212807126237. 1
- 212807126238. 2
- 212807126239. 3
- 212807126240. 4

Question Number : 180 Question Id : 21280731560 Question Type : MCQ Option Shuffling : No Is Question Mandatory : No Calculator : None Response Time : N.A Think Time : N.A Minimum Instruction Time : 0

Correct Marks : 5 Wrong Marks : 1

Question Key Details :

Key	Value
Comprehension	MCQ

विशेष *E. coli* की जीन कोडिंग के, प्रतिरोध के लिए किस प्रतिजैवी का उपयोग उचित है :

- (A) ऐम्पिसिलिन
- (B) टेट्रासाइक्लिन
- (C) केनामायसिन
- (D) पेनिसिलिन
- (E) क्लोरामफेनिकॉल

निम्नलिखित विकल्पों में से सही उत्तर का चयन कीजिए :

- (1) केवल (A) केवल (D)
- (2) केवल (B) केवल (C)
- (3) केवल (C) केवल (D)
- (4) केवल (A), (B), (C) केवल (E)

Options :

- 212807126237. 1
- 212807126238. 2
- 212807126239. 3
- 212807126240. 4

Question Number : 181 Question Id : 21280731561 Question Type : MCQ Option Shuffling : No Is Question Mandatory : No Calculator : None Response Time : N.A Think Time : N.A Minimum Instruction Time : 0

Correct Marks : 5 Wrong Marks : 1

Question Key Details :

Key	Value
-----	-------

Toxin of *Bacillus thurengiensis* is activated in insect by :

- (1) Alkaline pH of gut
- (2) Acidic pH of gut
- (3) High temperature
- (4) Mechanical action of gut

Options :

212807126241. 1
212807126242. 2
212807126243. 3
212807126244. 4

Question Number : 181 Question Id : 21280731561 Question Type : MCQ Option Shuffling : No Is Question Mandatory : No Calculator : None
Response Time : N.A Think Time : N.A Minimum Instruction Time : 0

Correct Marks : 5 Wrong Marks : 1

Question Key Details :

Key	Value
Comprehension	MCQ

बेसिलस थुरेंजेसिस का आविर्बालु किस कीट द्वारा सक्रिय होता है ?

- (1) आहारनलीके क्षारीय pH मान पर
- (2) आहारनली के आम्लीय pH मान पर
- (3) अधिक तापक्रम पर
- (4) आहार नली की यांत्रिक क्रियापर

Options :

212807126241. 1
212807126242. 2
212807126243. 3
212807126244. 4

Question Number : 182 Question Id : 21280731562 Question Type : MCQ Option Shuffling : No Is Question Mandatory : No Calculator : None
Response Time : N.A Think Time : N.A Minimum Instruction Time : 0

Correct Marks : 5 Wrong Marks : 1

Question Key Details :

Key	Value
Comprehension	MCQ

In RNAi genes are silenced by :

- (1) ss RNA
- (2) ss DNA
- (3) ds RNA
- (4) ds DNA

Options :

212807126245. 1
212807126246. 2
212807126247. 3
212807126248. 4

Question Number : 182 Question Id : 21280731562 Question Type : MCQ Option Shuffling : No Is Question Mandatory : No Calculator : None
Response Time : N.A Think Time : N.A Minimum Instruction Time : 0

Correct Marks : 5 Wrong Marks : 1

Question Key Details :

Key	Value
Comprehension	MCQ

RNAi जीन को मौन किया जाता है :

- (1) ss RNA द्वारा
- (2) ss DNA द्वारा
- (3) ds RNA द्वारा
- (4) ds DNA द्वारा

Options :

212807126245. 1
212807126246. 2
212807126247. 3
212807126248. 4

Question Number : 183 Question Id : 21280731563 Question Type : MCQ Option Shuffling : No Is Question Mandatory : No Calculator : None
Response Time : N.A Think Time : N.A Minimum Instruction Time : 0

Correct Marks : 5 Wrong Marks : 1

Question Key Details :

Key	Value
Comprehension	MCQ

Match List - I with List - II.

List - I

- (A) Cuckoo lays egg in crow's nest
- (B) Orchid grows in mango tree
- (C) Ticks live on skin of dogs
- (D) Species of Wasp and fig species

List - II

- (I) Commensalism
- (II) Parasitism
- (III) Mutualism
- (IV) Brood parasitism

Choose the correct answer from the options given below :

- (1) (A)-(I), (B)-(IV), (C)-(II), (D)-(III)
- (2) (A)-(IV), (B)-(I), (C)-(II), (D)-(III)
- (3) (A)-(IV), (B)-(I), (C)-(III), (D)-(II)
- (4) (A)-(I), (B)-(II), (C)-(III), (D)-(IV)

Options :

212807126249. 1
212807126250. 2
212807126251. 3
212807126252. 4

Question Number : 183 Question Id : 21280731563 Question Type : MCQ Option Shuffling : No Is Question Mandatory : No Calculator : None
Response Time : N.A Think Time : N.A Minimum Instruction Time : 0

Correct Marks : 5 Wrong Marks : 1

Question Key Details :

Key	Value
Comprehension	MCQ

सारणी - I का सारणी - II से मिलान करें।

सारणी - I

- (A) कोयल अपने अंडे कौआ के घोंसले में देती है
(B) ऑर्किड आम के पेड़ पर उगता है
(C) कुटे की कुत्ता की त्वचा में रहता है
(D) बर्र से अंजीर के पुष्प में परागण होता है

सारणी - II

- (I) सहभोजता
(II) परजीविता
(III) सहोपकारिता
(IV) अंड परजीविता

निम्नलिखित विकल्पों में से सही उत्तर का चयन कीजिए :

- (1) (A)-(I), (B)-(IV), (C)-(II), (D)-(III)
(2) (A)-(IV), (B)-(I), (C)-(II), (D)-(III)
(3) (A)-(IV), (B)-(I), (C)-(III), (D)-(II)
(4) (A)-(I), (B)-(II), (C)-(III), (D)-(IV)

Options :

212807126249. 1
212807126250. 2
212807126251. 3
212807126252. 4

Question Number : 184 Question Id : 21280731564 Question Type : MCQ Option Shuffling : No Is Question Mandatory : No Calculator : None
Response Time : N.A Think Time : N.A Minimum Instruction Time : 0

Correct Marks : 5 Wrong Marks : 1

Question Key Details :

Key	Value
Comprehension	MCQ

Verhulst pearl logistic population growth is represented by the equation :

(1) $\frac{dt}{dN} = rN \left(\frac{K - N}{K} \right)$

(2) $\frac{dN}{dt} = rN \left(\frac{K}{K - N} \right)$

(3) $\frac{dN}{dt} = rN \left(\frac{K - N}{K} \right)$

(4) $\frac{dt}{dN} = rN \left(\frac{K}{K - N} \right)$

Options :

212807126253. 1
212807126254. 2
212807126255. 3
212807126256. 4

Question Number : 184 Question Id : 21280731564 Question Type : MCQ Option Shuffling : No Is Question Mandatory : No Calculator : None
Response Time : N.A Think Time : N.A Minimum Instruction Time : 0

Correct Marks : 5 Wrong Marks : 1

Question Key Details :

Key	Value
Comprehension	MCQ

वेरहुस्ट-पलर्ल तार्किक जनसंख्या वृद्धि, समीकरण द्वारा प्रदर्शित की जाती है :

$$(1) \frac{dt}{dN} = rN \left(\frac{K - N}{K} \right)$$

$$(2) \frac{dN}{dt} = rN \left(\frac{K}{K - N} \right)$$

$$(3) \frac{dN}{dt} = rN \left(\frac{K - N}{K} \right)$$

$$(4) \frac{dt}{dN} = rN \left(\frac{K}{K - N} \right)$$

Options :

212807126253. 1

212807126254. 2

212807126255. 3

212807126256. 4

Question Number : 185 Question Id : 21280731565 Question Type : MCQ Option Shuffling : No Is Question Mandatory : No Calculator : None Response Time : N.A Think Time : N.A Minimum Instruction Time : 0

Correct Marks : 5 Wrong Marks : 1

Question Key Details :

Key	Value
Comprehension	MCQ

The rate of decomposition is slower if :

- (1) Availability of large amount of oxygen
- (2) Warm and moist environment
- (3) The detritus is rich in nitrogen and sugars
- (4) The detritus is rich is lignin and chitin

Options :

212807126257. 1

212807126258. 2

212807126259. 3

212807126260. 4

Question Number : 185 Question Id : 21280731565 Question Type : MCQ Option Shuffling : No Is Question Mandatory : No Calculator : None Response Time : N.A Think Time : N.A Minimum Instruction Time : 0

Correct Marks : 5 Wrong Marks : 1

Question Key Details :

Key	Value
Comprehension	MCQ

विघटन की गति धीमी हो जाती है यदि :

- (1) अधिक मात्रा में ऑक्सीजन की उपलब्धता हो
- (2) गर्म तथा नमीयुक्त वातावरण हो
- (3) अपरद, नाइट्रोजन तथा अर्करायुक्त प्रचुर मात्रा में हो
- (4) अपरद, में लिग्निन तथा काईटिन प्रचुर मात्रा में हो

Options :

212807126257. 1

212807126258. 2

212807126259. 3

212807126260. 4

Question Number : 186 Question Id : 21280731566 Question Type : MCQ Option Shuffling : No Is Question Mandatory : No Calculator : None
Response Time : N.A Think Time : N.A Minimum Instruction Time : 0

Correct Marks : 5 Wrong Marks : 1

Question Key Details :

Key	Value
Comprehension	MCQ

An example of inverted ecological pyramid is :

- (1) Pyramid of energy of forest
- (2) Pyramid of energy of grassland
- (3) Pyramid of biomass of sea
- (4) Pyramid of number in a grassland

Options :

212807126261. 1

212807126262. 2

212807126263. 3

212807126264. 4

Question Number : 186 Question Id : 21280731566 Question Type : MCQ Option Shuffling : No Is Question Mandatory : No Calculator : None
Response Time : N.A Think Time : N.A Minimum Instruction Time : 0

Correct Marks : 5 Wrong Marks : 1

Question Key Details :

Key	Value
Comprehension	MCQ

उल्टे पारिस्थितिक पिरामिड का उदाहरण है :

- (1) वन की ऊर्जा वाला पिरामिड
- (2) घास के मैदान की ऊर्जा वाला पिरामिड
- (3) समुद्र के जैव मास की ऊर्जा वाला पिरामिड
- (4) घास के मैदान वाली ऊर्जा वाला पिरामिड

Options :

212807126261. 1

212807126262. 2

212807126263. 3

212807126264. 4

Question Number : 187 Question Id : 21280731567 Question Type : MCQ Option Shuffling : No Is Question Mandatory : No Calculator : None
Response Time : N.A Think Time : N.A Minimum Instruction Time : 0

Correct Marks : 5 Wrong Marks : 1

Question Key Details :

Key	Value
Comprehension	MCQ

Who popularised the term 'Biodiversity' that intends to describe the combined diversity at all the levels of biological organisation ?

- (1) Devid Harvery
- (2) Sengar and Nicolson
- (3) Edward Wilson
- (4) Edward Jenar

Options :

212807126265. 1

212807126266. 2

212807126267. 3

212807126268. 4

Question Number : 187 Question Id : 21280731567 Question Type : MCQ Option Shuffling : No Is Question Mandatory : No Calculator : None
Response Time : N.A Think Time : N.A Minimum Instruction Time : 0

Correct Marks : 5 Wrong Marks : 1

Question Key Details :

Key	Value
Comprehension	MCQ

जिसने जैव विविधता के पद को व्यापक किया, उसकी प्रवृत्ति संयुक्त विविधता को संयुक्त रूप से जैविक संगठन स्तर तक व्यापक करने की थी, वह :

- (1) डेविड हार्वे
- (2) सैंगार और निकोलसन
- (3) ऐडवर्ड विल्सन
- (4) ऐडवर्ड जैनेर

Options :

212807126265. 1
212807126266. 2
212807126267. 3
212807126268. 4

Question Number : 188 Question Id : 21280731568 Question Type : MCQ Option Shuffling : No Is Question Mandatory : No Calculator : None
Response Time : N.A Think Time : N.A Minimum Instruction Time : 0

Correct Marks : 5 Wrong Marks : 1

Question Key Details :

Key	Value
Comprehension	MCQ

Which of the following is not an In situ conservation approach ?

- (1) Biosphere reserves
- (2) National parks
- (3) Cryopreservation
- (4) Sacred groves

Options :

212807126269. 1
212807126270. 2
212807126271. 3
212807126272. 4

Question Number : 188 Question Id : 21280731568 Question Type : MCQ Option Shuffling : No Is Question Mandatory : No Calculator : None
Response Time : N.A Think Time : N.A Minimum Instruction Time : 0

Correct Marks : 5 Wrong Marks : 1

Question Key Details :

Key	Value
Comprehension	MCQ

निम्नलिखित में कौन सा संरक्षण उपगमन एक स्वस्थान नहीं है ?

- (1) जैविक क्षेत्र
- (2) राष्ट्रीय उद्यान
- (3) निम्न तापीय संरक्षण
- (4) पवित्र उपवन

Options :

212807126269. 1
212807126270. 2
212807126271. 3
212807126272. 4

Question Number : 189 Question Id : 21280731569 Question Type : MCQ Option Shuffling : No Is Question Mandatory : No Calculator : None
Response Time : N.A Think Time : N.A Minimum Instruction Time : 0

Correct Marks : 5 Wrong Marks : 1

Question Key Details :

Key	Value
Comprehension	MCQ

In the following which plant is also called 'Terror of Bengal' ?

- (1) *Parthenium*
- (2) *Eichhornia*
- (3) *Lantana*
- (4) *Vallisneria*

Options :

212807126273. 1
212807126274. 2
212807126275. 3
212807126276. 4

Question Number : 189 Question Id : 21280731569 Question Type : MCQ Option Shuffling : No Is Question Mandatory : No Calculator : None
Response Time : N.A Think Time : N.A Minimum Instruction Time : 0

Correct Marks : 5 Wrong Marks : 1

Question Key Details :

Key	Value
Comprehension	MCQ

निम्नलिखित में से कौन सा पादप, बंगाल का आतंक है ?

- (1) पार्थीनियम
- (2) ईकोर्निया
- (3) लैन्ताना
- (4) वैलिसनेरिया

Options :

212807126273. 1
212807126274. 2
212807126275. 3
212807126276. 4

Question Number : 190 Question Id : 21280731570 Question Type : MCQ Option Shuffling : No Is Question Mandatory : No Calculator : None
Response Time : N.A Think Time : N.A Minimum Instruction Time : 0

Correct Marks : 5 Wrong Marks : 1

Question Key Details :

Key	Value
Comprehension	MCQ

Scrubber technology used in automobile to remove mainly which harmful gas from the exhaust with the help of water spray or lime :

- (1) Sulphur dioxide
- (2) Selenium dioxide
- (3) Phosphorus penta oxide
- (4) Carbon dioxide

Options :

212807126277. 1
212807126278. 2
212807126279. 3
212807126280. 4

Question Number : 190 Question Id : 21280731570 Question Type : MCQ Option Shuffling : No Is Question Mandatory : No Calculator : None Response Time : N.A Think Time : N.A Minimum Instruction Time : 0

Correct Marks : 5 Wrong Marks : 1

Question Key Details :

Key	Value
Comprehension	MCQ

स्क्रबर तकनीक को स्वचालित वाहनों में विशेष रूप से हानिकारक गैसों को निष्कासित करने के लिए जल की फुहार या बौछार की जाती है :

- (1) सल्फर डीऑक्साइड
- (2) सेलीनियम डीऑक्साइड
- (3) फॉस्फोरस पेन्टा ऑक्साइड
- (4) कार्बन डीऑक्साइड

Options :

212807126277. 1

212807126278. 2

212807126279. 3

212807126280. 4

Sub-Section Number :

2

Sub-Section Id :

2128072491

Question Shuffling Allowed :

No

Is Section Default? :

null

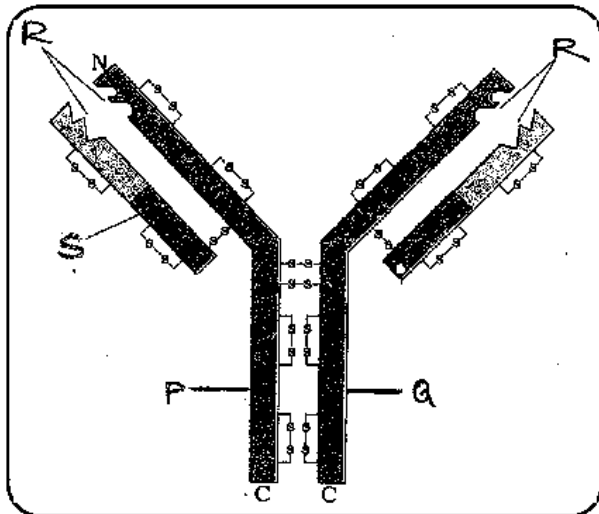
Question Number : 191 Question Id : 21280731571 Question Type : MCQ Option Shuffling : No Is Question Mandatory : No Calculator : None Response Time : N.A Think Time : N.A Minimum Instruction Time : 0

Correct Marks : 5 Wrong Marks : 1

Question Key Details :

Key	Value
Comprehension	Compl

Observe the diagram and answer the following question.



Which among the following cell produce the molecule shown in figure ?

- (1) Active body cell
- (2) T - lymphocytes
- (3) B - lymphocytes
- (4) Both B and T lymphocytes

Options :

212807126281. 1

212807126282. 2

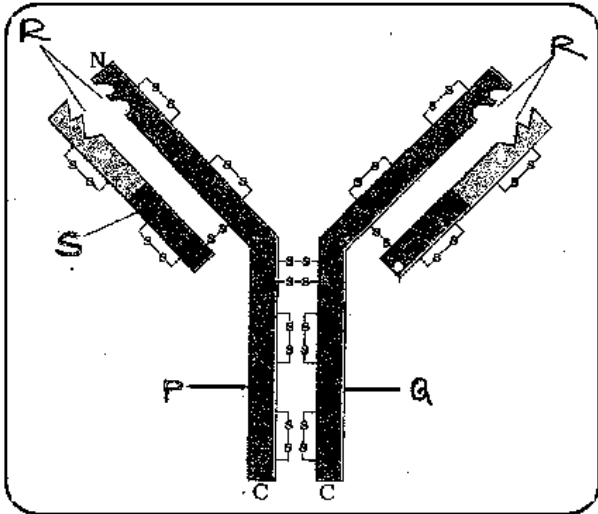
212807126283. 3
212807126284. 4

Question Number : 191 Question Id : 21280731571 Question Type : MCQ Option Shuffling : No Is Question Mandatory : No Calculator : None
Response Time : N.A Think Time : N.A Minimum Instruction Time : 0
Correct Marks : 5 Wrong Marks : 1

Question Key Details :

Key	Value
Comprehension	Comp1

आरेख का अवलोकन करके निम्नलिखित प्रश्न का उत्तर दीजिए।



आरेख में दिए गए अणुओं में से, निम्नलिखित में कौन कोशिका उत्पन्न करता है ?

- (1) सक्रिय शरीर कोशिका
- (2) T - कोशिका
- (3) B - कोशिका
- (4) दोनों B तथा T कोशिका

Options :

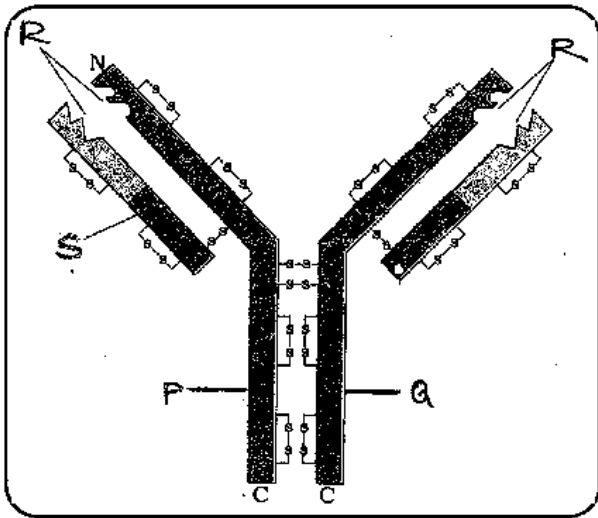
212807126281. 1
212807126282. 2
212807126283. 3
212807126284. 4

Question Number : 192 Question Id : 21280731572 Question Type : MCQ Option Shuffling : No Is Question Mandatory : No Calculator : None
Response Time : N.A Think Time : N.A Minimum Instruction Time : 0
Correct Marks : 5 Wrong Marks : 1

Question Key Details :

Key	Value
Comprehension	Comp1

Observe the diagram and answer the following question.



The parts 'P' and 'Q' of the molecule are held by.

- (1) Covalent bonds
- (2) Ionic bonds
- (3) Phospho diester bonds
- (4) Disulphide bonds

Options :

212807126285. 1

212807126286. 2

212807126287. 3

212807126288. 4

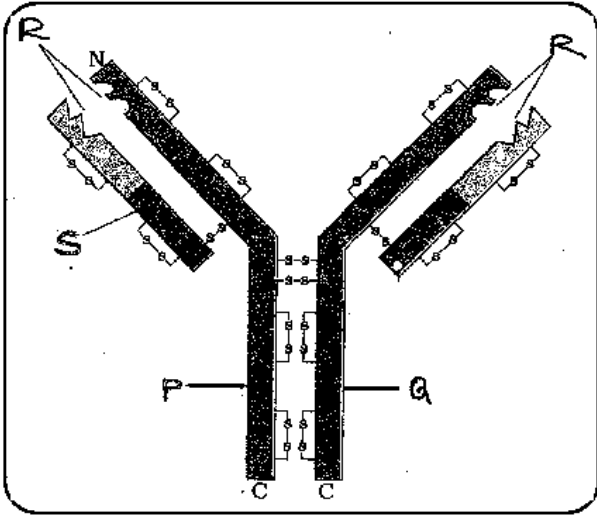
Question Number : 192 Question Id : 21280731572 Question Type : MCQ Option Shuffling : No Is Question Mandatory : No Calculator : None
Response Time : N.A Think Time : N.A Minimum Instruction Time : 0

Correct Marks : 5 Wrong Marks : 1

Question Key Details :

Key	Value
Comprehension	Comp1

आरेख का अवलोकन करके निम्नलिखित प्रश्न का उत्तर दीजिए।



'P' और 'Q' बंधे होते हैं :

- (1) सहसंयोजक बंध द्वारा
- (2) आयनिक बंध द्वारा
- (3) फॉस्फो डायस्टर बंध द्वारा
- (4) डाई सल्फाइड बंध द्वारा

Options :

212807126285. 1
212807126286. 2
212807126287. 3
212807126288. 4

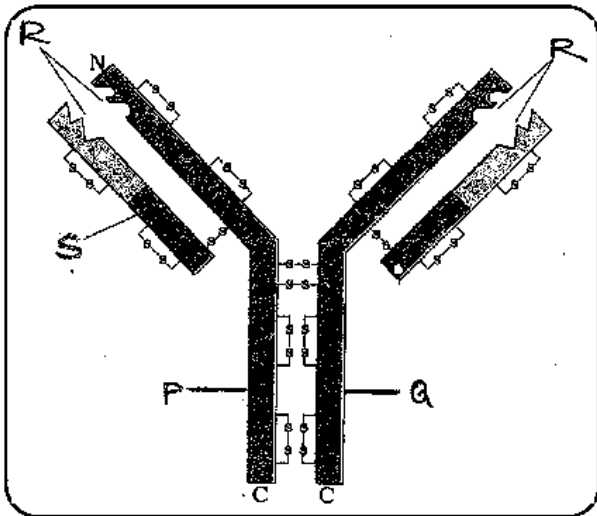
Question Number : 193 Question Id : 21280731573 Question Type : MCQ Option Shuffling : No Is Question Mandatory : No Calculator : None
Response Time : N.A Think Time : N.A Minimum Instruction Time : 0

Correct Marks : 5 Wrong Marks : 1

Question Key Details :

Key	Value
Comprehension	Compl

Observe the diagram and answer the following question.



The cell which help/ stimulate other cell in producing the molecule shown in diagram is :

- (1) B - lymphocytes
- (2) T - lymphocytes
- (3) Neutrophils
- (4) Macrophages

Options :

212807126289. 1

212807126290. 2

212807126291. 3

212807126292. 4

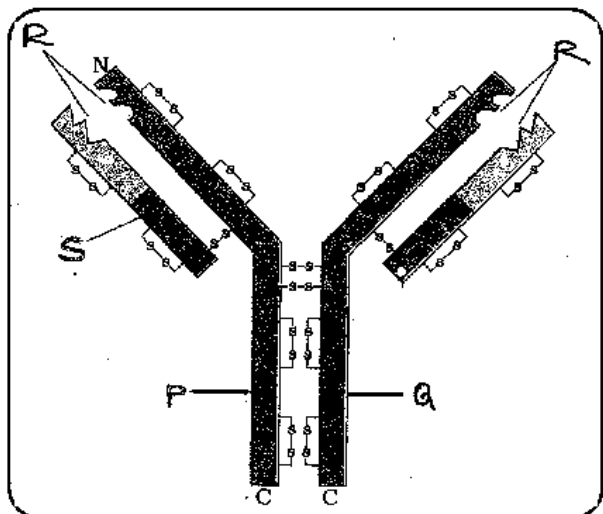
Question Number : 193 Question Id : 21280731573 Question Type : MCQ Option Shuffling : No Is Question Mandatory : No Calculator : None
Response Time : N.A Think Time : N.A Minimum Instruction Time : 0

Correct Marks : 5 Wrong Marks : 1

Question Key Details :

Key	Value
Comprehension	Comp1

आरेख का अवलोकन करके निम्नलिखित प्रश्न का उत्तर दीजिए।



कौन सी कोशिकाएं दिये गये आरेख के अणुओं की मदद/ऊद्दीपित करती हैं?

- (1) B - कोशिकाएं
- (2) T - कोशिकाएं
- (3) न्यूट्रोफिल कोशिकाएं
- (4) महाभक्षी कोशिकाएं

Options :

212807126289. 1
212807126290. 2
212807126291. 3
212807126292. 4

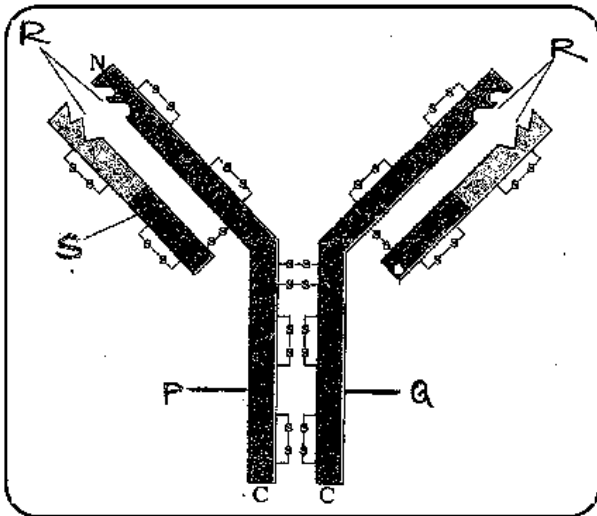
Question Number : 194 Question Id : 21280731574 Question Type : MCQ Option Shuffling : No Is Question Mandatory : No Calculator : None
Response Time : N.A Think Time : N.A Minimum Instruction Time : 0

Correct Marks : 5 Wrong Marks : 1

Question Key Details :

Key	Value
Comprehension	Compl

Observe the diagram and answer the following question.



The type of immunity provided by the molecule shown in the diagram :

- (1) Humoral
- (2) Cell mediated
- (3) Innate immunity
- (4) Both humoral and cell mediated

Options :

212807126293. 1

212807126294. 2

212807126295. 3

212807126296. 4

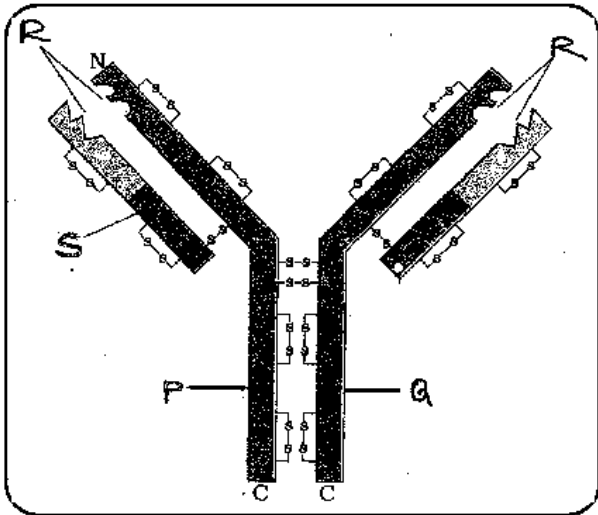
Question Number : 194 Question Id : 21280731574 Question Type : MCQ Option Shuffling : No Is Question Mandatory : No Calculator : None Response Time : N.A Think Time : N.A Minimum Instruction Time : 0

Correct Marks : 5 Wrong Marks : 1

Question Key Details :

Key	Value
Comprehension	Comp1

आरेख का अवलोकन करके निम्नलिखित प्रश्न का उत्तर दीजिए।



आरेख में दिये गये के अनुसार अणु किस प्रकार की प्रतिरक्षा प्रदान करते हैं?

- (1) माध्यत
- (2) कोशिका के मध्य
- (3) सहज प्रतिरक्षा
- (4) दोनों कोशिका के मध्य तथा माध्यत

Options :

212807126293. 1
212807126294. 2
212807126295. 3
212807126296. 4

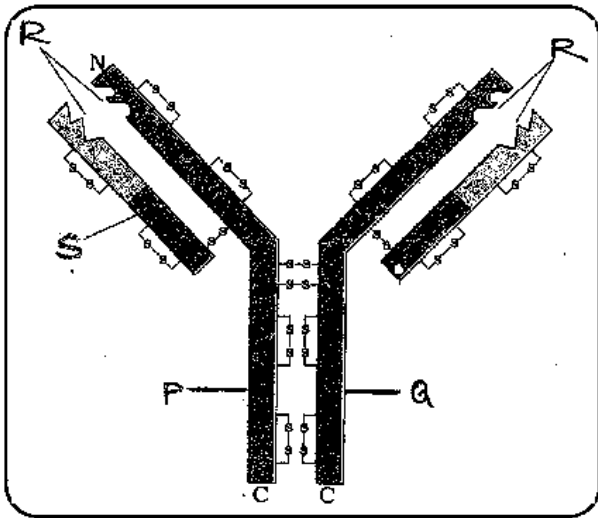
Question Number : 195 Question Id : 21280731575 Question Type : MCQ Option Shuffling : No Is Question Mandatory : No Calculator : None
Response Time : N.A Think Time : N.A Minimum Instruction Time : 0

Correct Marks : 5 Wrong Marks : 1

Question Key Details :

Key	Value
Comprehension	Compl

Observe the diagram and answer the following question.



What is indicated 'R' in the diagram ?

- (1) Light chain
- (2) Antigen binding site
- (3) Heavy chain
- (4) Disulphide bond

Options :

212807126297. 1

212807126298. 2

212807126299. 3

212807126300. 4

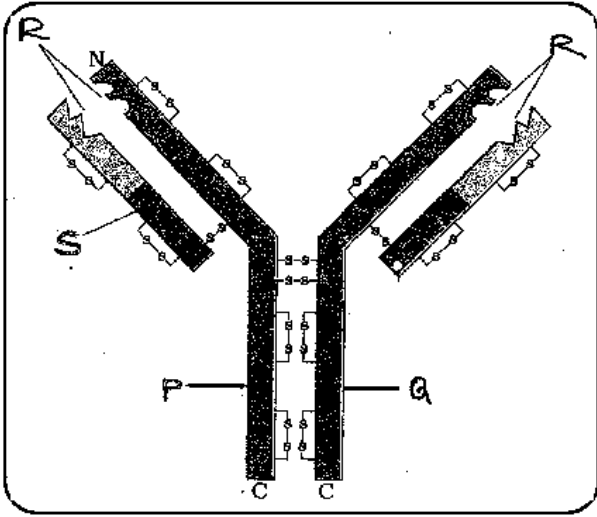
Question Number : 195 Question Id : 21280731575 Question Type : MCQ Option Shuffling : No Is Question Mandatory : No Calculator : None Response Time : N.A Think Time : N.A Minimum Instruction Time : 0

Correct Marks : 5 Wrong Marks : 1

Question Key Details :

Key	Value
Comprehension	Comp1

आरेख का अवलोकन करके निम्नलिखित प्रश्न का उत्तर दीजिए।



आरेख में 'R' किस को इंगित करता है?

- (1) लघु श्रृंखला
- (2) प्रतिजन बंधक स्थान
- (3) दीर्घ श्रृंखला
- (4) डाई सल्फाइड बंध

Options :

212807126297. 1
212807126298. 2
212807126299. 3
212807126300. 4

Sub-Section Number :

3

Sub-Section Id :

2128072492

Question Shuffling Allowed :

No

Is Section Default? :

null

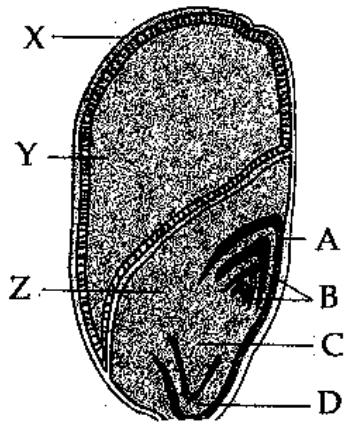
Question Number : 196 Question Id : 21280731576 Question Type : MCQ Option Shuffling : No Is Question Mandatory : No Calculator : None
Response Time : N.A Think Time : N.A Minimum Instruction Time : 0

Correct Marks : 5 Wrong Marks : 1

Question Key Details :

Key	Value
Comprehension	Comp2

The following diagram shows an endospermic seed of Maize grain. Answer the following question :



'X' developed from which part of angiospermic plant ?

- (1) Ovary cell
- (2) Zygote
- (3) Sepals
- (4) Petals

Options :

- 212807126301. 1
- 212807126302. 2
- 212807126303. 3
- 212807126304. 4

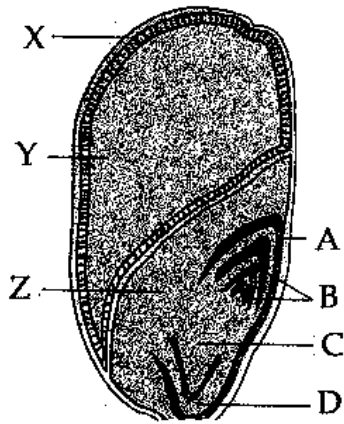
Question Number : 196 Question Id : 21280731576 Question Type : MCQ Option Shuffling : No Is Question Mandatory : No Calculator : None
Response Time : N.A Think Time : N.A Minimum Instruction Time : 0

Correct Marks : 5 Wrong Marks : 1

Question Key Details :

Key	Value
Comprehension	Comp2

निम्नलिखित आरेख में मक्का के दाने का भ्रूणपोष दर्शाया गया है। निम्नलिखित प्रश्न का उत्तर दीजिए :



'X' एंजियोस्पर्मिक पादपों के किस भाग से उत्पन्न होता है ?

- (1) फल भित्ति
- (2) भ्रूण
- (3) परिदल
- (4) दल

Options :

212807126301. 1

212807126302. 2

212807126303. 3

212807126304. 4

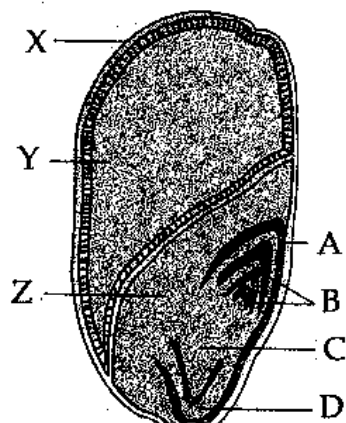
Question Number : 197 Question Id : 21280731577 Question Type : MCQ Option Shuffling : No Is Question Mandatory : No Calculator : None Response Time : N.A Think Time : N.A Minimum Instruction Time : 0

Correct Marks : 5 Wrong Marks : 1

Question Key Details :

Key	Value
Comprehension	Comp2

The following diagram shows an endospermic seed of Maize grain. Answer the following question :



The part which provides nourishment to the developing embryo is :

- (1) A
- (2) Y
- (3) B
- (4) D

Options :

- 212807126305. 1
- 212807126306. 2
- 212807126307. 3
- 212807126308. 4

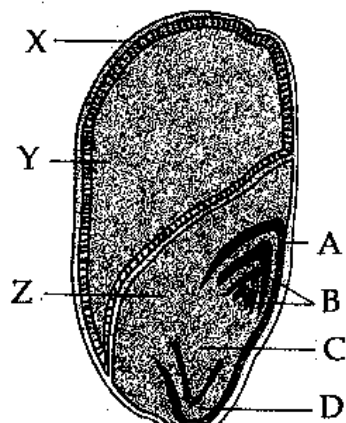
Question Number : 197 Question Id : 21280731577 Question Type : MCQ Option Shuffling : No Is Question Mandatory : No Calculator : None Response Time : N.A Think Time : N.A Minimum Instruction Time : 0

Correct Marks : 5 Wrong Marks : 1

Question Key Details :

Key	Value
Comprehension	Comp2

निम्नलिखित आरेख में मक्का के दाने का भ्रूणपोष दर्शाया गया है। निम्नलिखित प्रश्न का उत्तर दीजिए :



कौन सा भाग विकासशील भ्रूण का पोषण करता है?

- (1) A
- (2) Y
- (3) B
- (4) D

Options :

- 212807126305. 1
- 212807126306. 2
- 212807126307. 3
- 212807126308. 4

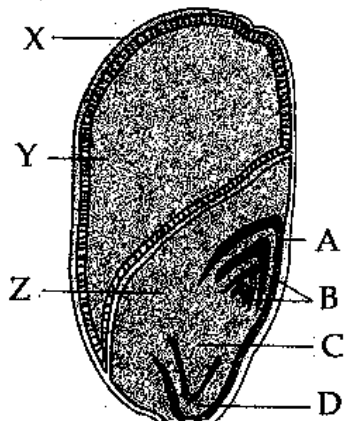
Question Number : 198 Question Id : 21280731578 Question Type : MCQ Option Shuffling : No Is Question Mandatory : No Calculator : None Response Time : N.A Think Time : N.A Minimum Instruction Time : 0

Correct Marks : 5 Wrong Marks : 1

Question Key Details :

Key	Value
Comprehension	Comp2

The following diagram shows an endospermic seed of Maize grain. Answer the following question :



In diagram the sheath which covers radicle is shown by ?

- (1) A
- (2) B
- (3) C
- (4) D

Options :

- 212807126309. 1
- 212807126310. 2
- 212807126311. 3
- 212807126312. 4

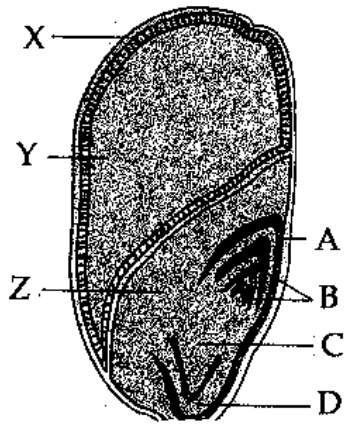
Question Number : 198 Question Id : 21280731578 Question Type : MCQ Option Shuffling : No Is Question Mandatory : No Calculator : None Response Time : N.A Think Time : N.A Minimum Instruction Time : 0

Correct Marks : 5 Wrong Marks : 1

Question Key Details :

Key	Value
Comprehension	Comp2

निम्नलिखित आरेख में मक्का के दाने का भ्रूणपोष दर्शाया गया है। निम्नलिखित प्रश्न का उत्तर दीजिए :



कौन सा आच्छंद, मूलांकर को ढकता है?

- (1) A
- (2) B
- (3) C
- (4) D

Options :

212807126309. 1
 212807126310. 2
 212807126311. 3
 212807126312. 4

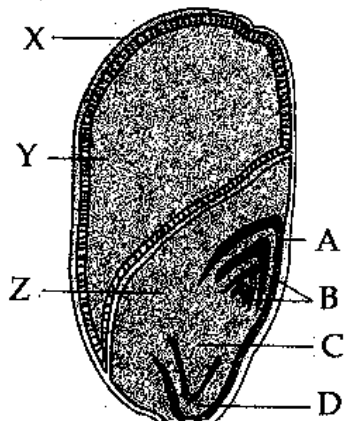
Question Number : 199 Question Id : 21280731579 Question Type : MCQ Option Shuffling : No Is Question Mandatory : No Calculator : None
 Response Time : N.A Think Time : N.A Minimum Instruction Time : 0

Correct Marks : 5 Wrong Marks : 1

Question Key Details :

Key	Value
Comprehension	Comp2

The following diagram shows an endospermic seed of Maize grain. Answer the following question :



In diagram the scutellum is represented by :

- (1) A
- (2) Y
- (3) Z
- (4) D

Options :

- 212807126313. 1
- 212807126314. 2
- 212807126315. 3
- 212807126316. 4

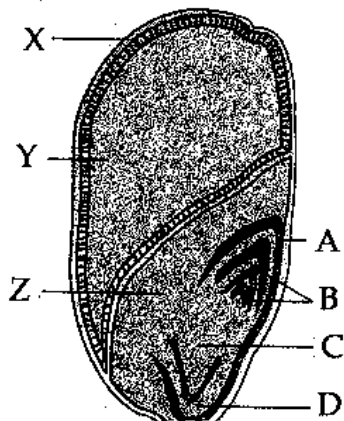
Question Number : 199 Question Id : 21280731579 Question Type : MCQ Option Shuffling : No Is Question Mandatory : No Calculator : None
Response Time : N.A Think Time : N.A Minimum Instruction Time : 0

Correct Marks : 5 Wrong Marks : 1

Question Key Details :

Key	Value
Comprehension	Comp2

निम्नलिखित आरेख में मक्का के दाने का भ्रूणपोष दर्शाया गया है। निम्नलिखित प्रश्न का उत्तर दीजिए :



स्क्यूटेलम प्रदर्शित करता है :

- (1) A
- (2) Y
- (3) Z
- (4) D

Options :

- 212807126313. 1
- 212807126314. 2
- 212807126315. 3
- 212807126316. 4

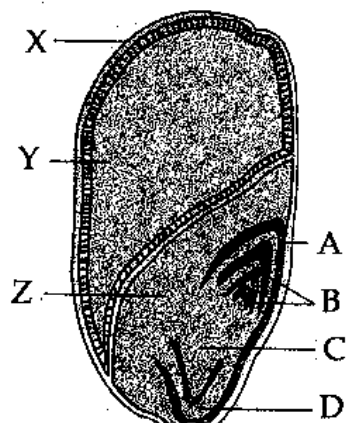
Question Number : 200 Question Id : 21280731580 Question Type : MCQ Option Shuffling : No Is Question Mandatory : No Calculator : None
Response Time : N.A Think Time : N.A Minimum Instruction Time : 0

Correct Marks : 5 Wrong Marks : 1

Question Key Details :

Key	Value
Comprehension	Comp2

The following diagram shows an endospermic seed of Maize grain. Answer the following question :



In diagram the sheath which covers plumule is shown by :

- (1) A
- (2) B
- (3) C
- (4) D

Options :

- 212807126317. 1
- 212807126318. 2
- 212807126319. 3
- 212807126320. 4

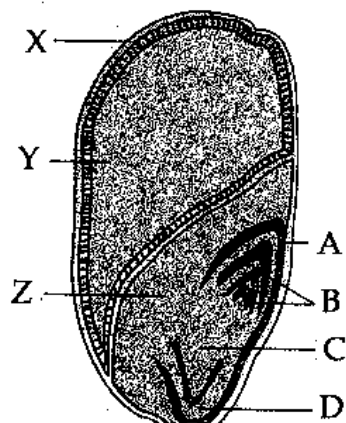
Question Number : 200 Question Id : 21280731580 Question Type : MCQ Option Shuffling : No Is Question Mandatory : No Calculator : None Response Time : N.A Think Time : N.A Minimum Instruction Time : 0

Correct Marks : 5 Wrong Marks : 1

Question Key Details :

Key	Value
Comprehension	Comp2

निम्नलिखित आरेख में मक्का के दाने का भ्रूणपोष दर्शाया गया है। निम्नलिखित प्रश्न का उत्तर दीजिए :



आरेख के अनुसार कौन सा आच्छद प्रांकुर को ढकता है?

- (1) A
- (2) B
- (3) C
- (4) D

Options :

212807126317. 1
 212807126318. 2
 212807126319. 3
 212807126320. 4

Business Studies

Group Number : 11
Group Id : 212807735
Group Maximum Duration : 45
Group Minimum Duration : 45
Show Attended Group? : No
Edit Attended Group? : No
Break time : 0
Group Marks : 200
Is this Group for Examiner? : No
Examiner permission : Cant View
Show Progress Bar? : No

Business Studies

Section Id : 212807865
Section Number : 1
Section type : Online
Mandatory or Optional : Mandatory
Number of Questions : 50
Number of Questions to be attempted : 40
Section Marks : 200
Enable Mark as Answered Mark for Review and Clear Response : Yes
Maximum Instruction Time : 0
Sub-Section Number : 1
Sub-Section Id : 2128072493
Question Shuffling Allowed : Yes
Is Section Default? : null

**Question Number : 201 Question Id : 21280731581 Question Type : MCQ Option Shuffling : No Is Question Mandatory : No Calculator : None
 Response Time : N.A Think Time : N.A Minimum Instruction Time : 0
 Correct Marks : 5 Wrong Marks : 1**

Question Key Details :

Key	Value
Comprehension	MCQ

People with different backgrounds perform diverse tasks in an organisation to achieve common goal. What aims at guiding their efforts towards achieving a common goal ?

- (1) Planning
- (2) Controlling
- (3) Coordination
- (4) Management

Options :

212807126321. 1
 212807126322. 2
 212807126323. 3
 212807126324. 4

**Question Number : 201 Question Id : 21280731581 Question Type : MCQ Option Shuffling : No Is Question Mandatory : No Calculator : None
 Response Time : N.A Think Time : N.A Minimum Instruction Time : 0
 Correct Marks : 5 Wrong Marks : 1**

Question Key Details :

Key	Value
-----	-------

समान उद्देश्यों की प्राप्ति के लिए विभिन्न पृष्ठभूमि वाले लोग संगठन में अलग-अलग प्रकार के कार्य करते हैं। लोगों के प्रयत्नों एवं समान उद्देश्य को प्राप्त करने में दिशा प्रदान करने का क्या लक्ष्य है।

- (1) नियोजन
- (2) नियन्त्रण
- (3) समन्वय
- (4) प्रबन्ध

Options :

212807126321. 1
212807126322. 2
212807126323. 3
212807126324. 4

Question Number : 202 Question Id : 21280731582 Question Type : MCQ Option Shuffling : No Is Question Mandatory : No Calculator : None
Response Time : N.A Think Time : N.A Minimum Instruction Time : 0

Correct Marks : 5 Wrong Marks : 1

Question Key Details :

Key	Value
Comprehension	MCQ

Radha owns a company of handmade craft in a rural area and she employed marginalised sections of society in her company and gave them wages as per the work completed by them. Identify the objective of management that is accomplished by Radha.

- (1) Organisational Objective
- (2) Social Objective
- (3) Intangible Objective
- (4) Personal Objective

Options :

212807126325. 1
212807126326. 2
212807126327. 3
212807126328. 4

Question Number : 202 Question Id : 21280731582 Question Type : MCQ Option Shuffling : No Is Question Mandatory : No Calculator : None
Response Time : N.A Think Time : N.A Minimum Instruction Time : 0

Correct Marks : 5 Wrong Marks : 1

Question Key Details :

Key	Value
Comprehension	MCQ

राधा एक ग्रामीण क्षेत्र में हस्तनिर्मित शिल्प की एक कंपनी की मालिक हैं और उन्होंने अपनी कंपनी में समाज के उपेक्षित वर्गों को रोजगार दिया और उनके द्वारा किए गए काम के अनुसार उन्हें मजदूरी दी। राधा द्वारा प्राप्त किये गये प्रबन्ध के उद्देश्य की पहचान कीजिए।

- (1) संगठनात्मक उद्देश्य
- (2) सामाजिक उद्देश्य
- (3) अमूर्त उद्देश्य
- (4) कर्मचारीगण संबंधी उद्देश्य

Options :

212807126325. 1
212807126326. 2

212807126327. 3
212807126328. 4

Question Number : 203 Question Id : 21280731583 Question Type : MCQ Option Shuffling : No Is Question Mandatory : No Calculator : None
Response Time : N.A Think Time : N.A Minimum Instruction Time : 0
Correct Marks : 5 Wrong Marks : 1

Question Key Details :

Key	Value
Comprehension	MCQ

Following are the techniques suggested by Taylor.

- (A) Motion Study
- (B) Time Study
- (C) Cooperation, not Individualism
- (D) Harmony not Discord
- (E) Fatigue Study

Choose the correct answer from the options given below :

- (1) (A), (B), (C) and (D) Only
- (2) (B), (C), (D) and (E) Only
- (3) (A), (B) and (E) Only
- (4) (A), (B) and (C) Only

Options :

212807126329. 1
212807126330. 2
212807126331. 3
212807126332. 4

Question Number : 203 Question Id : 21280731583 Question Type : MCQ Option Shuffling : No Is Question Mandatory : No Calculator : None
Response Time : N.A Think Time : N.A Minimum Instruction Time : 0
Correct Marks : 5 Wrong Marks : 1

Question Key Details :

Key	Value
Comprehension	MCQ

टेलर के द्वारा निम्नलिखित तकनीकों को सुझाया गया

- (A) गति अध्ययन
- (B) समय अध्ययन
- (C) सहयोग, न कि व्यक्तिवाद
- (D) तालमेल न कि रकराव
- (E) थकान अध्ययन

नीचे दिए गए विकल्पों में से सही उत्तर का चयन कीजिए :

- (1) केवल (A), (B), (C) और (D)
- (2) केवल (B), (C), (D) और (E)
- (3) केवल (A), (B) और (E)
- (4) केवल (A), (B) और (C)

Options :

212807126329. 1
212807126330. 2
212807126331. 3

Question Number : 204 Question Id : 21280731584 Question Type : MCQ Option Shuffling : No Is Question Mandatory : No Calculator : None
Response Time : N.A Think Time : N.A Minimum Instruction Time : 0

Correct Marks : 5 Wrong Marks : 1

Question Key Details :

Key	Value
Comprehension	MCQ

Ravi, the Sales Manager of Global Limited, never listens to others regarding sales policies, he think that he only is qualified to evaluate, judge and decide policies related to sales decisions. This leads to conflict among him and other departmental heads. So coordination is required to reconcile the differences between Ravi and other departmental heads.

Which importance of coordination is referred to in above case.

- (1) Growth in size
- (2) Functional Differentiation
- (3) Specialisation
- (4) Increasing Efficiency

Options :

212807126333. 1

212807126334. 2

212807126335. 3

212807126336. 4

Question Number : 204 Question Id : 21280731584 Question Type : MCQ Option Shuffling : No Is Question Mandatory : No Calculator : None
Response Time : N.A Think Time : N.A Minimum Instruction Time : 0

Correct Marks : 5 Wrong Marks : 1

Question Key Details :

Key	Value
Comprehension	MCQ

ग्लोबल लिमिटेड का विक्रय प्रबन्धक रवि विक्रय नीतियों के सम्बन्ध में कभी किसी की नहीं सुनता है। वह सोचता है कि वह ही केवल विक्रय निर्णय के सम्बन्ध में नीतिगत निर्णयों के मूल्यांकन, आंकलन के लिए योग्य है। जिससे उसके और अन्य विभाग प्रमुखों के मध्य मतभेदों के समाधान के लिए समन्वय की आवश्यकता है।

उपरोक्त मामले में समन्वय के किस महत्व का उल्लेख किया गया है।

- (1) आकार में वृद्धि
- (2) कार्यात्मक विभेदीकरण
- (3) विशिष्टीकरण
- (4) कार्यक्षमता में वृद्धि

Options :

212807126333. 1

212807126334. 2

212807126335. 3

212807126336. 4

Question Number : 205 Question Id : 21280731585 Question Type : MCQ Option Shuffling : No Is Question Mandatory : No Calculator : None
Response Time : N.A Think Time : N.A Minimum Instruction Time : 0

Correct Marks : 5 Wrong Marks : 1

Question Key Details :

Key	Value
Comprehension	MCQ

LPG Model means _____.

- (1) Liberty, Poverty, Globalisation
- (2) Liberty, Privatisation, Globalisation
- (3) Labour, Products and Goods
- (4) Liberalisation, Privatisation and Globalisation

Options :

212807126337. 1
212807126338. 2
212807126339. 3
212807126340. 4

Question Number : 205 Question Id : 21280731585 Question Type : MCQ Option Shuffling : No Is Question Mandatory : No Calculator : None
Response Time : N.A Think Time : N.A Minimum Instruction Time : 0

Correct Marks : 5 Wrong Marks : 1

Question Key Details :

Key	Value
Comprehension	MCQ

LPG मॉडल का अर्थ है _____ ।

- (1) स्वतंत्रता, गरीबी, वैश्वीकरण
- (2) स्वतंत्रता, निजीकरण, वैश्वीकरण
- (3) श्रम, उत्पाद और वस्तुएँ
- (4) उदारीकरण, निजीकरण और वैश्वीकरण

Options :

212807126337. 1
212807126338. 2
212807126339. 3
212807126340. 4

Question Number : 206 Question Id : 21280731586 Question Type : MCQ Option Shuffling : No Is Question Mandatory : No Calculator : None
Response Time : N.A Think Time : N.A Minimum Instruction Time : 0

Correct Marks : 5 Wrong Marks : 1

Question Key Details :

Key	Value
Comprehension	MCQ

_____ means the integration of the various economies of the world leading towards the emergence of a cohesive global economy.

- (1) Privatisation
- (2) Industrialisation
- (3) Globalisation
- (4) Liberalisation

Options :

212807126341. 1
212807126342. 2
212807126343. 3
212807126344. 4

Question Number : 206 Question Id : 21280731586 Question Type : MCQ Option Shuffling : No Is Question Mandatory : No Calculator : None
Response Time : N.A Think Time : N.A Minimum Instruction Time : 0

Correct Marks : 5 Wrong Marks : 1

Question Key Details :

Key	Value
Comprehension	MCQ

_____ का अर्थ है विश्व की विभिन्न अर्थव्यवस्थाओं का एकजुट हो जाना जिससे एक सम्मिलित वैश्विक अर्थव्यवस्था का उदय हो।

- (1) निजीकरण
- (2) औद्योगीकरण
- (3) वैश्वीकरण
- (4) उदारीकरण

Options :

212807126341. 1
212807126342. 2
212807126343. 3
212807126344. 4

Question Number : 207 Question Id : 21280731587 Question Type : MCQ Option Shuffling : No Is Question Mandatory : No Calculator : None Response Time : N.A Think Time : N.A Minimum Instruction Time : 0

Correct Marks : 5 Wrong Marks : 1

Question Key Details :

Key	Value
Comprehension	MCQ

Match List - I with List - II.

List - I

- (A) General stability and peace in country
- (B) Legislations passed by the government
- (C) Inflation rates, changes in income
- (D) Custom, traditions, values

List - II

- (I) Economic environment
- (II) Social environment
- (III) Legal environment
- (IV) Political environment

Choose the correct answer from the options given below :

- (1) (A)-(IV), (B)-(I), (C)-(III), (D)-(II)
- (2) (A)-(I), (B)-(II), (C)-(III), (D)-(IV)
- (3) (A)-(IV), (B)-(III), (C)-(I), (D)-(II)
- (4) (A)-(IV), (B)-(III), (C)-(II), (D)-(I)

Options :

212807126345. 1
212807126346. 2
212807126347. 3
212807126348. 4

Question Number : 207 Question Id : 21280731587 Question Type : MCQ Option Shuffling : No Is Question Mandatory : No Calculator : None Response Time : N.A Think Time : N.A Minimum Instruction Time : 0

Correct Marks : 5 Wrong Marks : 1

Question Key Details :

Key	Value
Comprehension	MCQ

सूची-I से सूची-II का मिलान कीजिए :

सूची-I

सूची-II

- | | |
|---------------------------------------|------------------------|
| (A) सामान्य स्थिरता और दोष में शांति | (I) आर्थिक पर्यावरण |
| (B) सरकार के द्वारा पारित कानून | (II) सामाजिक पर्यावरण |
| (C) मुद्रास्फीति परे, आय में परिवर्तन | (III) विधिक पर्यावरण |
| (D) रीति, रिवाज, मूल्य | (IV) राजनैतिक पर्यावरण |

नीचे दिए गए विकल्पों में से सही उत्तर का चयन कीजिए :

- (1) (A)-(IV), (B)-(I), (C)-(III), (D)-(II)
- (2) (A)-(I), (B)-(II), (C)-(III), (D)-(IV)
- (3) (A)-(IV), (B)-(III), (C)-(I), (D)-(II)
- (4) (A)-(IV), (B)-(III), (C)-(II), (D)-(I)

Options :

212807126345. 1
212807126346. 2
212807126347. 3
212807126348. 4

Question Number : 208 Question Id : 21280731588 Question Type : MCQ Option Shuffling : No Is Question Mandatory : No Calculator : None
Response Time : N.A Think Time : N.A Minimum Instruction Time : 0

Correct Marks : 5 Wrong Marks : 1

Question Key Details :

Key	Value
Comprehension	MCQ

Following is not a part of Globalisation.

- (1) Integration of various economies of the world
- (2) Increased level of interaction and interdependence among various nations
- (3) No physical geographical gap or political boundaries
- (4) Restrictions on import

Options :

212807126349. 1
212807126350. 2
212807126351. 3
212807126352. 4

Question Number : 208 Question Id : 21280731588 Question Type : MCQ Option Shuffling : No Is Question Mandatory : No Calculator : None
Response Time : N.A Think Time : N.A Minimum Instruction Time : 0

Correct Marks : 5 Wrong Marks : 1

Question Key Details :

Key	Value
Comprehension	MCQ

निम्नलिखित में वैश्वीकरण का भाग नहीं है।

- (1) विश्व की विभिन्न अर्थव्यवस्थाओं का एकजुट होना
- (2) विभिन्न देशों में पारस्परिक लेन-देन तथा एक दूसरे पर निर्भरता में वृद्धि
- (3) भौतिक भौगोलिक दूरी अथवा राजनैतिक सीमाएँ नहीं
- (4) आयात पर प्रतिबन्ध

Options :

212807126349. 1

212807126350. 2
212807126351. 3
212807126352. 4

Question Number : 209 Question Id : 21280731589 Question Type : MCQ Option Shuffling : No Is Question Mandatory : No Calculator : None
Response Time : N.A Think Time : N.A Minimum Instruction Time : 0

Correct Marks : 5 Wrong Marks : 1

Question Key Details :

Key	Value
Comprehension	MCQ

Arrange the steps of Planning process in the correct sequence.

- (A) Setting Objectives
- (B) Developing premises
- (C) Identifying alternative courses of action
- (D) Evaluating alternative courses
- (E) Selecting an alternative

Choose the correct answer from the options given below :

- (1) (A), (B), (D), (E), (C)
- (2) (A), (C), (E), (D), (B)
- (3) (A), (B), (C), (E), (D)
- (4) (A), (B), (C), (D), (E)

Options :

212807126353. 1
212807126354. 2
212807126355. 3
212807126356. 4

Question Number : 209 Question Id : 21280731589 Question Type : MCQ Option Shuffling : No Is Question Mandatory : No Calculator : None
Response Time : N.A Think Time : N.A Minimum Instruction Time : 0

Correct Marks : 5 Wrong Marks : 1

Question Key Details :

Key	Value
Comprehension	MCQ

नियोजन प्रक्रिया के चरणों को सही क्रम में व्यवस्थित करें

- (A) उद्देश्यों का निर्धारण
- (B) विकासशील आधार
- (C) कार्यवाही की वैकल्पिक विधियों की पहचान
- (D) विकल्पों का मूल्यांकन
- (E) विकल्पों का चुनाव

नीचे दिए गए विकल्पों में से सही उत्तर का चयन कीजिए :

- (1) (A), (B), (D), (E), (C)
- (2) (A), (C), (E), (D), (B)
- (3) (A), (B), (C), (E), (D)
- (4) (A), (B), (C), (D), (E)

Options :

212807126353. 1
212807126354. 2
212807126355. 3

Question Number : 210 Question Id : 21280731590 Question Type : MCQ Option Shuffling : No Is Question Mandatory : No Calculator : None
Response Time : N.A Think Time : N.A Minimum Instruction Time : 0

Correct Marks : 5 Wrong Marks : 1

Question Key Details :

Key	Value
Comprehension	MCQ

“In spite of all efforts, company may fail to achieve dominant position in the market by the end of the next financial year”. Which limitation of the function of management, is referred in the above statement.

- (1) Leads to Rigidity
- (2) Reduces Creativity
- (3) Time Consuming
- (4) Does not guarantee success

Options :

212807126357. 1

212807126358. 2

212807126359. 3

212807126360. 4

Question Number : 210 Question Id : 21280731590 Question Type : MCQ Option Shuffling : No Is Question Mandatory : No Calculator : None
Response Time : N.A Think Time : N.A Minimum Instruction Time : 0

Correct Marks : 5 Wrong Marks : 1

Question Key Details :

Key	Value
Comprehension	MCQ

“सभी प्रयत्नों के बावजूद, कम्पनी अगले वित्तीय वर्ष के अंत तक प्रभावशाली स्थान प्राप्त करने में विफल हो सकती है।”
प्रबन्ध के कार्य को किस सीमा का ऊपर दिये गये कथन में सर्दिर्भित किया गया है।

- (1) दृढ़ता उत्पन्न करता है
- (2) रचनात्मकता को कम करता है
- (3) समय नष्ट करनेवाली
- (4) सफलता का आश्वासन नहीं है

Options :

212807126357. 1

212807126358. 2

212807126359. 3

212807126360. 4

Question Number : 211 Question Id : 21280731591 Question Type : MCQ Option Shuffling : No Is Question Mandatory : No Calculator : None
Response Time : N.A Think Time : N.A Minimum Instruction Time : 0

Correct Marks : 5 Wrong Marks : 1

Question Key Details :

Key	Value
Comprehension	MCQ

Match List - I with List - II.

List - I

- (A) Strategy
(B) Programme
(C) Procedure
(D) Objectives

List - II

- (I) What you would like to achieve
(II) Sequence of steps for performing work in a given manner
(III) A Comprehensive plan for accomplishing an organisation's objectives
(IV) Detailed statements with each and every minute detail

Choose the **correct** answer from the options given below :

- (1) (A)-(III), (B)-(IV), (C)-(II), (D)-(I)
(2) (A)-(III), (B)-(IV), (C)-(I), (D)-(II)
(3) (A)-(IV), (B)-(III), (C)-(II), (D)-(I)
(4) (A)-(IV), (B)-(III), (C)-(I), (D)-(II)

Options :

212807126361. 1
212807126362. 2
212807126363. 3
212807126364. 4

Question Number : 211 Question Id : 21280731591 Question Type : MCQ Option Shuffling : No Is Question Mandatory : No Calculator : None
Response Time : N.A Think Time : N.A Minimum Instruction Time : 0

Correct Marks : 5 Wrong Marks : 1

Question Key Details :

Key	Value
Comprehension	MCQ

सूची-I से सूची-II का मिलान कीजिए :

सूची-I

- (A) ब्यूह-रचना
(B) कार्यक्रम
(C) प्रक्रिया
(D) उद्देश्य

सूची-II

- (I) आप क्या प्राप्त करना चाहते हैं
(II) एक प्रदत्त तरीके में कार्य के निष्पादन के लिए चरणों का क्रम
(III) एक संगठन के उद्देश्यों की प्राप्ति के लिए एक व्यापक योजना
(IV) प्रत्येक सूक्ष्म ब्यौरों के साथ विस्तृत विवरण

नीचे दिए गए विकल्पों में से **सही उत्तर** का चयन कीजिए :

- (1) (A)-(III), (B)-(IV), (C)-(II), (D)-(I)
(2) (A)-(III), (B)-(IV), (C)-(I), (D)-(II)
(3) (A)-(IV), (B)-(III), (C)-(II), (D)-(I)
(4) (A)-(IV), (B)-(III), (C)-(I), (D)-(II)

Options :

212807126361. 1
212807126362. 2
212807126363. 3
212807126364. 4

Question Number : 212 Question Id : 21280731592 Question Type : MCQ Option Shuffling : No Is Question Mandatory : No Calculator : None
Response Time : N.A Think Time : N.A Minimum Instruction Time : 0

Correct Marks : 5 Wrong Marks : 1

Question Key Details :

Key	Value
Comprehension	MCQ

Identify the elements of delegation.

- (A) Authority
- (B) Centralisation
- (C) Decentralisation
- (D) Accountability
- (E) Responsibility

Choose the correct answer from the options given below :

- (1) (A), (B) and (C) Only
- (2) (B), (C) and (D) Only
- (3) (A), (D) and (C) Only
- (4) (A), (D) and (E) Only

Options :

- 212807126365. 1
- 212807126366. 2
- 212807126367. 3
- 212807126368. 4

Question Number : 212 Question Id : 21280731592 Question Type : MCQ Option Shuffling : No Is Question Mandatory : No Calculator : None Response Time : N.A Think Time : N.A Minimum Instruction Time : 0

Correct Marks : 5 Wrong Marks : 1

Question Key Details :

Key	Value
Comprehension	MCQ

अंतरण के तत्व की पहचान कीजिए।

- (A) अधिकार
- (B) केन्द्रीयकरण
- (C) विकेन्द्रीयकरण
- (D) जवाबदेही
- (E) उत्तरदायित्व

नीचे दिए गए विकल्पों में से सही उत्तर का चयन कीजिए :

- (1) केवल (A), (B) और (C)
- (2) केवल (B), (C) और (D)
- (3) केवल (A), (D) और (C)
- (4) केवल (A), (D) और (E)

Options :

- 212807126365. 1
- 212807126366. 2
- 212807126367. 3
- 212807126368. 4

Question Number : 213 Question Id : 21280731593 Question Type : MCQ Option Shuffling : No Is Question Mandatory : No Calculator : None Response Time : N.A Think Time : N.A Minimum Instruction Time : 0

Correct Marks : 5 Wrong Marks : 1

Question Key Details :

Key	Value
Comprehension	MCQ

Identify which of the following concept arises from formal position.

- (1) Authority
- (2) Responsibility
- (3) Accountability
- (4) Power

Options :

212807126369. 1
212807126370. 2
212807126371. 3
212807126372. 4

Question Number : 213 Question Id : 21280731593 Question Type : MCQ Option Shuffling : No Is Question Mandatory : No Calculator : None
Response Time : N.A Think Time : N.A Minimum Instruction Time : 0

Correct Marks : 5 Wrong Marks : 1

Question Key Details :

Key	Value
Comprehension	MCQ

औपचारिक पद के उद्गम की संकल्पना की निम्नलिखित में से पहचान कीजिए।

- (1) अधिकार
- (2) उत्तरदायित्व
- (3) जवाबदेही
- (4) शक्ति

Options :

212807126369. 1
212807126370. 2
212807126371. 3
212807126372. 4

Question Number : 214 Question Id : 21280731594 Question Type : MCQ Option Shuffling : No Is Question Mandatory : No Calculator : None
Response Time : N.A Think Time : N.A Minimum Instruction Time : 0

Correct Marks : 5 Wrong Marks : 1

Question Key Details :

Key	Value
Comprehension	MCQ

Which of the following statement is 'correct' ?

- (1) Formal organisations are quicker in decision making
- (2) Formal organisations are flexible
- (3) Formal organisations emphasizes on work rather than interpersonal relationships
- (4) Formal organisations are formed on its own

Options :

212807126373. 1
212807126374. 2
212807126375. 3
212807126376. 4

Question Number : 214 Question Id : 21280731594 Question Type : MCQ Option Shuffling : No Is Question Mandatory : No Calculator : None
Response Time : N.A Think Time : N.A Minimum Instruction Time : 0

Correct Marks : 5 Wrong Marks : 1

Question Key Details :

Key	Value
Comprehension	MCQ

निम्नलिखित में से कौन सा कथन 'सही' है ?

- (1) औपचारिक संगठन निर्णय लेने में तेज होते हैं
- (2) औपचारिक संगठन लचीले होते हैं
- (3) औपचारिक संगठन आपसी संबंधों की अपेक्षा कार्य पर अधिक बल देते हैं
- (4) औपचारिक संगठन अपने आप बनते हैं

Options :

212807126373. 1
212807126374. 2
212807126375. 3
212807126376. 4

Question Number : 215 Question Id : 21280731595 Question Type : MCQ Option Shuffling : No Is Question Mandatory : No Calculator : None
Response Time : N.A Think Time : N.A Minimum Instruction Time : 0

Correct Marks : 5 Wrong Marks : 1

Question Key Details :

Key	Value
Comprehension	MCQ

Accountability arises from :

- (1) Delegated authority
- (2) Responsibility
- (3) Formal position
- (4) Obligation to perform an assigned task

Options :

212807126377. 1
212807126378. 2
212807126379. 3
212807126380. 4

Question Number : 215 Question Id : 21280731595 Question Type : MCQ Option Shuffling : No Is Question Mandatory : No Calculator : None
Response Time : N.A Think Time : N.A Minimum Instruction Time : 0

Correct Marks : 5 Wrong Marks : 1

Question Key Details :

Key	Value
Comprehension	MCQ

जवाबदेही _____ से उत्पन्न होती है :

- (1) प्रत्यायोजित अधिकार
- (2) उत्तरदायित्व
- (3) औपचारिक
- (4) सौंपे गए कार्य को करने का दायित्व

Options :

212807126377. 1
212807126378. 2
212807126379. 3
212807126380. 4

Question Number : 216 Question Id : 21280731596 Question Type : MCQ Option Shuffling : No Is Question Mandatory : No Calculator : None
Response Time : N.A Think Time : N.A Minimum Instruction Time : 0

Correct Marks : 5 Wrong Marks : 1

Question Key Details :

Key	Value
-----	-------

Rearrange the staffing process in proper sequence :

- (A) Training and Development
- (B) Performance Appraisal
- (C) Placement and Orientation
- (D) Promotion and Career planning
- (E) Compensation

Choose the correct answer from the options given below :

- (1) (A), (C), (D), (B), (E)
- (2) (A), (C), (B), (D), (E)
- (3) (C), (A), (D), (B), (E)
- (4) (C), (A), (B), (D), (E)

Options :

- 212807126381. 1
- 212807126382. 2
- 212807126383. 3
- 212807126384. 4

Question Number : 216 Question Id : 21280731596 Question Type : MCQ Option Shuffling : No Is Question Mandatory : No Calculator : None Response Time : N.A Think Time : N.A Minimum Instruction Time : 0

Correct Marks : 5 Wrong Marks : 1

Question Key Details :

Key	Value
Comprehension	MCQ

नियुक्तिकरण प्रक्रिया को उचित क्रम में पुनर्व्यवस्थित करें :

- (A) प्रशिक्षण तथा विकास
- (B) निष्पादन मूल्यांकन
- (C) अनुस्थापन तथा अभिविन्यास
- (D) पदोन्नति एवं वृत्ति नियोजन
- (E) क्षतिपूर्ति

नीचे दिए गए विकल्पों में से सही उत्तर का चयन कीजिए :

- (1) (A), (C), (D), (B), (E)
- (2) (A), (C), (B), (D), (E)
- (3) (C), (A), (D), (B), (E)
- (4) (C), (A), (B), (D), (E)

Options :

- 212807126381. 1
- 212807126382. 2
- 212807126383. 3
- 212807126384. 4

Question Number : 217 Question Id : 21280731597 Question Type : MCQ Option Shuffling : No Is Question Mandatory : No Calculator : None Response Time : N.A Think Time : N.A Minimum Instruction Time : 0

Correct Marks : 5 Wrong Marks : 1

Question Key Details :

Key	Value
Comprehension	MCQ

Match List - I with List - II.

List - I

- (A) Intelligence tests
- (B) Aptitude tests
- (C) Personality tests
- (D) Trade tests

List - II

- (I) Potential to learn new skills
- (II) Measures the existing skills
- (III) Ability to make decisions and judgement
- (IV) Provide clues to a person's emotions, reactions, maturity etc.

Choose the **correct** answer from the options given below :

- (1) (A)-(I), (B)-(III), (C)-(IV), (D)-(II)
- (2) (A)-(IV), (B)-(II), (C)-(III), (D)-(I)
- (3) (A)-(III), (B)-(I), (C)-(IV), (D)-(II)
- (4) (A)-(II), (B)-(IV), (C)-(III), (D)-(I)

Options :

- 212807126385. 1
- 212807126386. 2
- 212807126387. 3
- 212807126388. 4

Question Number : 217 Question Id : 21280731597 Question Type : MCQ Option Shuffling : No Is Question Mandatory : No Calculator : None Response Time : N.A Think Time : N.A Minimum Instruction Time : 0

Correct Marks : 5 Wrong Marks : 1

Question Key Details :

Key	Value
Comprehension	MCQ

सूची-I से सूची-II का मिलान कीजिए :

सूची-I

- (A) बुद्धि परीक्षाएँ
- (B) कौशल परीक्षाएँ
- (C) व्यक्तित्व परीक्षाएँ
- (D) व्यापार परीक्षा

सूची-II

- (I) नए कौशल को सीखने की संभावित कुशलता
- (II) वर्तमान कौशलों को मापती हैं
- (III) निर्णय लेने तथा परखने की योग्यता
- (IV) व्यक्ति के संवेगों, प्रतिक्रियाओं परिपक्वता इत्यादि का संकेत प्रदान करता हैं

नीचे दिए गए विकल्पों में से **सही उत्तर** का चयन कीजिए :

- (1) (A)-(I), (B)-(III), (C)-(IV), (D)-(II)
- (2) (A)-(IV), (B)-(II), (C)-(III), (D)-(I)
- (3) (A)-(III), (B)-(I), (C)-(IV), (D)-(II)
- (4) (A)-(II), (B)-(IV), (C)-(III), (D)-(I)

Options :

- 212807126385. 1
- 212807126386. 2
- 212807126387. 3
- 212807126388. 4

Question Number : 218 Question Id : 21280731598 Question Type : MCQ Option Shuffling : No Is Question Mandatory : No Calculator : None Response Time : N.A Think Time : N.A Minimum Instruction Time : 0

Correct Marks : 5 Wrong Marks : 1

Question Key Details :

Key	Value
Comprehension	MCQ

“Workload Analysis” and “Workforce Analysis” are two aspects of an important step in staffing process. Identify that step.

- (1) Recruitment
- (2) Selection
- (3) Placement and Orientation
- (4) Estimating the manpower requirements

Options :

212807126389. 1
212807126390. 2
212807126391. 3
212807126392. 4

Question Number : 218 Question Id : 21280731598 Question Type : MCQ Option Shuffling : No Is Question Mandatory : No Calculator : None
Response Time : N.A Think Time : N.A Minimum Instruction Time : 0

Correct Marks : 5 Wrong Marks : 1

Question Key Details :

Key	Value
Comprehension	MCQ

“काग्रभार विश्लेषण” तथा “कार्य-शक्ति विश्लेषण” नियुक्तिकरण प्रक्रिया के एक महत्वपूर्ण चरण के दो पहलू हैं। उस चरण को पहचाने।

- (1) भर्ती
- (2) चयन
- (3) नियुक्ति तथा अभिविन्यास
- (4) मानव शक्ति आवश्यकताओं का आकलन

Options :

212807126389. 1
212807126390. 2
212807126391. 3
212807126392. 4

Question Number : 219 Question Id : 21280731599 Question Type : MCQ Option Shuffling : No Is Question Mandatory : No Calculator : None
Response Time : N.A Think Time : N.A Minimum Instruction Time : 0

Correct Marks : 5 Wrong Marks : 1

Question Key Details :

Key	Value
Comprehension	MCQ

Match List - I with List - II.

List - I

- (A) Apprenticeship Programmes
(B) Internship Training
(C) Vestibule Training
(D) Computer Modelling

List - II

- (I) Stimulates the work environment
(II) Training is conducted away from actual work floor
(III) Acquire practical knowledge and skills along with regular studies
(IV) Put the trainee under the guidance of a master worker

Choose the correct answer from the options given below :

- (1) (A)-(I), (B)-(II), (C)-(III), (D)-(IV)
(2) (A)-(IV), (B)-(I), (C)-(II), (D)-(III)
(3) (A)-(IV), (B)-(III), (C)-(II), (D)-(I)
(4) (A)-(II), (B)-(III), (C)-(IV), (D)-(I)

Options :

212807126393. 1
212807126394. 2
212807126395. 3
212807126396. 4

Question Number : 219 Question Id : 21280731599 Question Type : MCQ Option Shuffling : No Is Question Mandatory : No Calculator : None
Response Time : N.A Think Time : N.A Minimum Instruction Time : 0

Correct Marks : 5 Wrong Marks : 1

Question Key Details :

Key	Value
Comprehension	MCQ

सूची-I से सूची-II का मिलान कीजिए :

सूची-I

- (A) प्रशिक्षणार्थी कार्यक्रम
(B) स्थानबद्ध प्रशिक्षण
(C) प्रकोष्ठ प्रशिक्षण
(D) कंप्यूटर प्रतिमान

सूची-II

- (I) कार्य वातावरण को प्रोत्साहित करता है
(II) प्रशिक्षण वास्तविक कार्यस्थल से हटकर दिया जाता है
(III) नियमित अध्ययन के साथ व्यवहारिक ज्ञान तथा कौशल अर्जित करते हैं
(IV) प्रशिक्षणार्थी को प्रवीण कर्मचारी के मार्गदर्शन में रखना

नीचे दिए गए विकल्पों में से सही उत्तर का चयन कीजिए :

- (1) (A)-(I), (B)-(II), (C)-(III), (D)-(IV)
(2) (A)-(IV), (B)-(I), (C)-(II), (D)-(III)
(3) (A)-(IV), (B)-(III), (C)-(II), (D)-(I)
(4) (A)-(II), (B)-(III), (C)-(IV), (D)-(I)

Options :

212807126393. 1
212807126394. 2
212807126395. 3
212807126396. 4

Question Number : 220 Question Id : 21280731600 Question Type : MCQ Option Shuffling : No Is Question Mandatory : No Calculator : None
Response Time : N.A Think Time : N.A Minimum Instruction Time : 0

Correct Marks : 5 Wrong Marks : 1

Question Key Details :

Key	Value
-----	-------

Arrange the following needs of an individual as per Maslow's Need Hierarchy theory.

- (A) Status
- (B) Hunger
- (C) Friendship
- (D) Stability of Income
- (E) Self fulfilment

Choose the correct answer from the options given below :

- (1) (B), (D), (C), (A), (E)
- (2) (B), (D), (A), (C), (E)
- (3) (D), (B), (A), (C), (E)
- (4) (A), (B), (D), (E), (C)

Options :

- 212807126397. 1
- 212807126398. 2
- 212807126399. 3
- 212807126400. 4

Question Number : 220 Question Id : 21280731600 Question Type : MCQ Option Shuffling : No Is Question Mandatory : No Calculator : None Response Time : N.A Think Time : N.A Minimum Instruction Time : 0

Correct Marks : 5 Wrong Marks : 1

Question Key Details :

Key	Value
Comprehension	MCQ

एक व्यक्ति की निम्नलिखित आवश्यकताओं को मास्लो के आवश्यकता क्रम सिद्धांत के अनुसार व्यवस्थित करें

- (A) पद
- (B) भूख
- (C) मित्रता
- (D) आय की स्थिरता
- (E) आत्म-संतुष्टि

नीचे दिए गए विकल्पों में से सही उत्तर का चयन कीजिए :

- (1) (B), (D), (C), (A), (E)
- (2) (B), (D), (A), (C), (E)
- (3) (D), (B), (A), (C), (E)
- (4) (A), (B), (D), (E), (C)

Options :

- 212807126397. 1
- 212807126398. 2
- 212807126399. 3
- 212807126400. 4

Question Number : 221 Question Id : 21280731601 Question Type : MCQ Option Shuffling : No Is Question Mandatory : No Calculator : None Response Time : N.A Think Time : N.A Minimum Instruction Time : 0

Correct Marks : 5 Wrong Marks : 1

Question Key Details :

Key	Value
Comprehension	MCQ

By which function, managers at all levels can ensure that activities are being performed as per the plans ?

- (1) Organising
- (2) Controlling
- (3) Directing
- (4) Staffing

Options :

212807126401. 1
212807126402. 2
212807126403. 3
212807126404. 4

Question Number : 221 Question Id : 21280731601 Question Type : MCQ Option Shuffling : No Is Question Mandatory : No Calculator : None
Response Time : N.A Think Time : N.A Minimum Instruction Time : 0

Correct Marks : 5 Wrong Marks : 1

Question Key Details :

Key	Value
Comprehension	MCQ

किस कार्य के द्वारा, प्रबन्धक सभी स्तरों पर सुनिश्चित कर सकता है कि क्रियाकलापों का निष्पादन योजनाओं के अनुसार किया जा रहा है ?

- (1) संगठन
- (2) नियंत्रण
- (3) निर्देशन
- (4) नियुक्तिकरण

Options :

212807126401. 1
212807126402. 2
212807126403. 3
212807126404. 4

Question Number : 222 Question Id : 21280731602 Question Type : MCQ Option Shuffling : No Is Question Mandatory : No Calculator : None
Response Time : N.A Think Time : N.A Minimum Instruction Time : 0

Correct Marks : 5 Wrong Marks : 1

Question Key Details :

Key	Value
Comprehension	MCQ

Which is not the traditional technique of controlling ?

- (1) Personal Observation
- (2) Statistical Reports
- (3) Ratio Analysis
- (4) Budgetary Control

Options :

212807126405. 1
212807126406. 2
212807126407. 3
212807126408. 4

Question Number : 222 Question Id : 21280731602 Question Type : MCQ Option Shuffling : No Is Question Mandatory : No Calculator : None
Response Time : N.A Think Time : N.A Minimum Instruction Time : 0

Correct Marks : 5 Wrong Marks : 1

Question Key Details :

Key	Value
-----	-------

इनमें से कौन सी नियंत्रण की पारंपरिक तकनीक नहीं है ?

- (1) व्यक्तिगत अवलोकन
- (2) सांख्यिकीय प्रतिवेदन
- (3) अनुपात विश्लेषण
- (4) बजटीय नियंत्रण

Options :

212807126405. 1
212807126406. 2
212807126407. 3
212807126408. 4

Question Number : 223 Question Id : 21280731603 Question Type : MCQ Option Shuffling : No Is Question Mandatory : No Calculator : None
Response Time : N.A Think Time : N.A Minimum Instruction Time : 0

Correct Marks : 5 Wrong Marks : 1

Question Key Details :

Key	Value
Comprehension	MCQ

Arrange the following steps of controlling in a sequence :

- (A) Analysing deviations
- (B) Setting performance standards
- (C) Taking corrective action
- (D) Comparing actual performance with standards
- (E) Measurement of actual performance

Choose the correct answer from the options given below :

- (1) (B), (E), (A), (D), (C)
- (2) (A), (B), (C), (D), (E)
- (3) (B), (E), (D), (A), (C)
- (4) (A), (B), (D), (C), (E)

Options :

212807126409. 1
212807126410. 2
212807126411. 3
212807126412. 4

Question Number : 223 Question Id : 21280731603 Question Type : MCQ Option Shuffling : No Is Question Mandatory : No Calculator : None
Response Time : N.A Think Time : N.A Minimum Instruction Time : 0

Correct Marks : 5 Wrong Marks : 1

Question Key Details :

Key	Value
Comprehension	MCQ

नियन्त्रण प्रक्रिया के निम्नलिखित चरणों को एक क्रम में व्यवस्थित करें :

- (A) विचलनों का विश्लेषण
- (B) निष्पादन मानकों का निर्धारण
- (C) सुधारात्मक कार्यवाही करना
- (D) वास्तविक निष्पादन की मानकों से तुलना
- (E) वास्तविक निष्पादन की माप

नीचे दिए गए विकल्पों में से सही उत्तर का चयन कीजिए :

- (1) (B), (E), (A), (D), (C)
- (2) (A), (B), (C), (D), (E)
- (3) (B), (E), (D), (A), (C)
- (4) (A), (B), (D), (C), (E)

Options :

- 212807126409. 1
- 212807126410. 2
- 212807126411. 3
- 212807126412. 4

Question Number : 224 Question Id : 21280731604 Question Type : MCQ Option Shuffling : No Is Question Mandatory : No Calculator : None
Response Time : N.A Think Time : N.A Minimum Instruction Time : 0

Correct Marks : 5 Wrong Marks : 1

Question Key Details :

Key	Value
Comprehension	MCQ

Which technique of controlling is used to determine the probable profit and losses at different levels of activity.

- (1) Statistical reports
- (2) Personal observation
- (3) Breakeven analysis
- (4) Budgetary control

Options :

- 212807126413. 1
- 212807126414. 2
- 212807126415. 3
- 212807126416. 4

Question Number : 224 Question Id : 21280731604 Question Type : MCQ Option Shuffling : No Is Question Mandatory : No Calculator : None
Response Time : N.A Think Time : N.A Minimum Instruction Time : 0

Correct Marks : 5 Wrong Marks : 1

Question Key Details :

Key	Value
Comprehension	MCQ

क्रियाकलापों के विभिन्न स्तरों पर संभावित लाभ और हानि को निर्धारित करने के लिए नियन्त्रण की किस तकनीक का उपयोग किया जाता है।

- (1) सांख्यिकीय प्रतिवेदन
- (2) व्यक्तिगत अवलोकन
- (3) बिना लाभ हानि विश्लेषण
- (4) बजटीय नियंत्रण

Options :

212807126413. 1
212807126414. 2
212807126415. 3
212807126416. 4

Question Number : 225 Question Id : 21280731605 Question Type : MCQ Option Shuffling : No Is Question Mandatory : No Calculator : None
Response Time : N.A Think Time : N.A Minimum Instruction Time : 0

Correct Marks : 5 Wrong Marks : 1

Question Key Details :

Key	Value
Comprehension	MCQ

Match List - I with List - II.

List - I

Factors affecting

- (A) Fixed capital
- (B) Working capital
- (C) Dividend Decision
- (D) Capital structure

List - II

Factors

- (I) Shareholder's preference
- (II) Interest coverage ratio
- (III) Collaboration level
- (IV) Seasonal factor

Choose the **correct** answer from the options given below :

- (1) (A)-(III), (B)-(IV), (C)-(I), (D)-(II)
- (2) (A)-(III), (B)-(I), (C)-(IV), (D)-(II)
- (3) (A)-(III), (B)-(I), (C)-(II), (D)-(IV)
- (4) (A)-(III), (B)-(II), (C)-(I), (D)-(IV)

Options :

212807126417. 1
212807126418. 2
212807126419. 3
212807126420. 4

Question Number : 225 Question Id : 21280731605 Question Type : MCQ Option Shuffling : No Is Question Mandatory : No Calculator : None
Response Time : N.A Think Time : N.A Minimum Instruction Time : 0

Correct Marks : 5 Wrong Marks : 1

Question Key Details :

Key	Value
Comprehension	MCQ

सूची-I से सूची-II का मिलान कीजिए :

सूची-I	सूची-II
प्रभावित करने वाले	कारक
(A) स्थायी पूंजी	(I) अंशधारक की प्राथमिकता
(B) कार्यशील पूंजी	(II) ब्याज व्याप्ती अनुपात
(C) लाभांश निर्णय	(III) सहयोग का स्तर
(D) पूंजी संरचना	(IV) मौसमी कारक

नीचे दिए गए विकल्पों में से सही उत्तर का चयन कीजिए :

- (1) (A)-(III), (B)-(IV), (C)-(I), (D)-(II)
- (2) (A)-(III), (B)-(I), (C)-(IV), (D)-(II)
- (3) (A)-(III), (B)-(I), (C)-(II), (D)-(IV)
- (4) (A)-(III), (B)-(II), (C)-(I), (D)-(IV)

Options :

212807126417. 1
212807126418. 2
212807126419. 3
212807126420. 4

Question Number : 226 Question Id : 21280731606 Question Type : MCQ Option Shuffling : No Is Question Mandatory : No Calculator : None
Response Time : N.A Think Time : N.A Minimum Instruction Time : 0

Correct Marks : 5 Wrong Marks : 1

Question Key Details :

Key	Value
Comprehension	MCQ

If a company's ROI is 7.8% and total investment is ₹ 30 lakhs, then what will be EBIT ?

- (1) ₹ 2,38,000
- (2) ₹ 2,40,000
- (3) ₹ 2,34,000
- (4) ₹ 4,00,000

Options :

212807126421. 1
212807126422. 2
212807126423. 3
212807126424. 4

Question Number : 226 Question Id : 21280731606 Question Type : MCQ Option Shuffling : No Is Question Mandatory : No Calculator : None
Response Time : N.A Think Time : N.A Minimum Instruction Time : 0

Correct Marks : 5 Wrong Marks : 1

Question Key Details :

Key	Value
Comprehension	MCQ

अगर एक कम्पनी का ROI 7.8% प्रतिशत और कुल निवेश 30 लाख रुपये है। तब EBIT क्या होगा ?

- (1) ₹ 2,38,000
- (2) ₹ 2,40,000
- (3) ₹ 2,34,000
- (4) ₹ 4,00,000

Options :

212807126421. 1
212807126422. 2
212807126423. 3
212807126424. 4

Question Number : 227 Question Id : 21280731607 Question Type : MCQ Option Shuffling : No Is Question Mandatory : No Calculator : None
Response Time : N.A Think Time : N.A Minimum Instruction Time : 0

Correct Marks : 5 Wrong Marks : 1

Question Key Details :

Key	Value
Comprehension	MCQ

Identify the concept that refer to the difference between current assets and current liabilities.

- (1) Gross working capital
- (2) Working capital
- (3) Net working capital
- (4) Fixed capital

Options :

212807126425. 1
212807126426. 2
212807126427. 3
212807126428. 4

Question Number : 227 Question Id : 21280731607 Question Type : MCQ Option Shuffling : No Is Question Mandatory : No Calculator : None
Response Time : N.A Think Time : N.A Minimum Instruction Time : 0

Correct Marks : 5 Wrong Marks : 1

Question Key Details :

Key	Value
Comprehension	MCQ

उस संकल्पना को पहचानिए जो चालू सम्पतियों और चालू दायित्वों के अन्तर को सन्दर्भित करता है।

- (1) सकल कार्यशील पूंजी
- (2) कार्यशील पूंजी
- (3) शुद्ध कार्यशील पूंजी
- (4) स्थायी पूंजी

Options :

212807126425. 1
212807126426. 2
212807126427. 3
212807126428. 4

Question Number : 228 Question Id : 21280731608 Question Type : MCQ Option Shuffling : No Is Question Mandatory : No Calculator : None
Response Time : N.A Think Time : N.A Minimum Instruction Time : 0

Correct Marks : 5 Wrong Marks : 1

Question Key Details :

Key	Value
Comprehension	MCQ

Choose the factors affecting capital structure

- (A) Risk Consideration
- (B) Nature of business
- (C) Cost of debt
- (D) Growth prospects
- (E) Flexibility

Choose the correct answer from the options given below :

- (1) (A), (B), (C) and (D) Only
- (2) (A), (C) and (E) Only
- (3) (A) and (C) Only
- (4) (A), (B) and (C) Only

Options :

- 212807126429. 1
- 212807126430. 2
- 212807126431. 3
- 212807126432. 4

Question Number : 228 Question Id : 21280731608 Question Type : MCQ Option Shuffling : No Is Question Mandatory : No Calculator : None Response Time : N.A Think Time : N.A Minimum Instruction Time : 0

Correct Marks : 5 Wrong Marks : 1

Question Key Details :

Key	Value
Comprehension	MCQ

पूंजी संरचना को प्रभावित करने वाले कारकों को चुने :

- (A) जोखिम विचार
- (B) व्यवसाय की प्रकृति
- (C) ऋण की लागत
- (D) संवृद्धि सुयोग
- (E) लचीलापन

नीचे दिए गए विकल्पों में से सही उत्तर का चयन कीजिए :

- (1) केवल (A), (B), (C) और (D)
- (2) केवल (A), (C) और (E)
- (3) केवल (A) और (C)
- (4) केवल (A), (B) और (C)

Options :

- 212807126429. 1
- 212807126430. 2
- 212807126431. 3
- 212807126432. 4

Question Number : 229 Question Id : 21280731609 Question Type : MCQ Option Shuffling : No Is Question Mandatory : No Calculator : None Response Time : N.A Think Time : N.A Minimum Instruction Time : 0

Correct Marks : 5 Wrong Marks : 1

Question Key Details :

Key	Value
Comprehension	MCQ

Answer after reading following about Treasury Bill.

- (A) A Treasury bill is an instrument of short term borrowing by the Government of India
- (B) The maturity period of a Treasury bill is more than one year
- (C) Treasury bills are also known as Zero Coupon Bonds
- (D) Treasury bills are available for a minimum amount of ₹ 20,000.
- (E) Treasury bills are issued at a price which is lower than their face value and repaid at par.

Choose the correct answer from the options given below :

- (1) (A), (B), (C) and (E) Only
- (2) (A), (C) and (E) Only
- (3) (A), (B), (C) and (D) Only
- (4) (A), (B) and (E) Only

Options :

- 212807126433. 1
- 212807126434. 2
- 212807126435. 3
- 212807126436. 4

Question Number : 229 Question Id : 21280731609 Question Type : MCQ Option Shuffling : No Is Question Mandatory : No Calculator : None Response Time : N.A Think Time : N.A Minimum Instruction Time : 0

Correct Marks : 5 Wrong Marks : 1

Question Key Details :

Key	Value
Comprehension	MCQ

ट्रेजरी बिल के बारे में पढ़ने के बाद उत्तर दें :

- (A) ट्रेजरी बिल भारत सरकार द्वारा अल्पावधि ऋण लेने का एक प्रपत्र है।
- (B) एक ट्रेजरी बिल की परिपक्वता अवधि एक वर्ष से अधिक होती है।
- (C) ट्रेजरी बिल को शून्य कूपन बंध पत्र के नाम से भी जाना जाता है।
- (D) ट्रेजरी बिल 20,000 रूपये के न्यूनतम मूल्य पर उपलब्ध होते हैं।
- (E) ट्रेजरी बिल ऐसे मूल्य पर जारी किये जाते हैं जो अपने अंकित मूल्य से कम के होते हैं और इनका पुर्कभुगतान उसके समतुल्य पर किया जाता है।

नीचे दिए गए विकल्पों में से सही उत्तर का चयन कीजिए :

- (1) केवल (A), (B), (C) और (E)
- (2) केवल (A), (C) और (E)
- (3) केवल (A), (B), (C) और (D)
- (4) केवल (A), (B) और (E)

Options :

- 212807126433. 1
- 212807126434. 2
- 212807126435. 3
- 212807126436. 4

Question Number : 230 Question Id : 21280731610 Question Type : MCQ Option Shuffling : No Is Question Mandatory : No Calculator : None Response Time : N.A Think Time : N.A Minimum Instruction Time : 0

Correct Marks : 5 Wrong Marks : 1

Question Key Details :

Key	Value
-----	-------

Which is a Development function of SEBI :-

- (1) Registration of Mutual Funds
- (2) Training of intermediaries of the securities market
- (3) Regulation of takeover bids by companies
- (4) Controlling insider trading

Options :

212807126437. 1
212807126438. 2
212807126439. 3
212807126440. 4

Question Number : 230 Question Id : 21280731610 Question Type : MCQ Option Shuffling : No Is Question Mandatory : No Calculator : None
Response Time : N.A Think Time : N.A Minimum Instruction Time : 0

Correct Marks : 5 Wrong Marks : 1

Question Key Details :

Key	Value
Comprehension	MCQ

सेबी का विकासात्मक कार्य कौन सा है :

- (1) म्यूचुअल फंडों का पंजीकरण
- (2) प्रतिभूति बाजार के मध्यस्थों का प्रशिक्षण
- (3) कंपनियों द्वारा बोलियों के अधिग्रहण का विनियमन
- (4) अनाधिकृति व्यापार पर नियंत्रण

Options :

212807126437. 1
212807126438. 2
212807126439. 3
212807126440. 4

Question Number : 231 Question Id : 21280731611 Question Type : MCQ Option Shuffling : No Is Question Mandatory : No Calculator : None
Response Time : N.A Think Time : N.A Minimum Instruction Time : 0

Correct Marks : 5 Wrong Marks : 1

Question Key Details :

Key	Value
Comprehension	MCQ

Which of the following is not the objective of SEBI ?

- (1) To Regulate Stock Exchange and Securities Industry.
- (2) To Protect the rights and interests of Investors
- (3) To Prevent trade Malpractices
- (4) To Spread mechanism for Pricing of Securities

Options :

212807126441. 1
212807126442. 2
212807126443. 3
212807126444. 4

Question Number : 231 Question Id : 21280731611 Question Type : MCQ Option Shuffling : No Is Question Mandatory : No Calculator : None
Response Time : N.A Think Time : N.A Minimum Instruction Time : 0

Correct Marks : 5 Wrong Marks : 1

Question Key Details :

Key	Value
Comprehension	MCQ

निम्नलिखित में से कौन सा SEBI का उद्देश्य नहीं है ?

- (1) स्टॉक एक्सचेंज और प्रतिभूति उद्योगों को विनियमित करने के लिए
- (2) निवेशकों के अधिकारों और हितों की रक्षा के लिए
- (3) व्यापार भ्रष्टाचार को रोकने के लिए
- (4) प्रतिभूतियों के मूल्य निर्धारण के लिए तंत्र का प्रसार करना

Options :

212807126441. 1
212807126442. 2
212807126443. 3
212807126444. 4

Question Number : 232 Question Id : 21280731612 Question Type : MCQ Option Shuffling : No Is Question Mandatory : No Calculator : None
Response Time : N.A Think Time : N.A Minimum Instruction Time : 0

Correct Marks : 5 Wrong Marks : 1

Question Key Details :

Key	Value
Comprehension	MCQ

Arrange the following steps involved in the screen based trading for buying and selling of securities.

- (A) Broker goes online, connects with stock exchange and matches the share with best price available.
- (B) Approach a registered broker or sub-broker
- (C) Placement of order with broker
- (D) Open a demat account with depository participant.
- (E) After shares are bought/sold, communication to broker's terminal and order executed.

Choose the correct answer from the options given below :

- (1) (B), (D), (A), (C), (E)
- (2) (D), (B), (A), (C), (E)
- (3) (C), (A), (B), (D), (E)
- (4) (B), (D), (C), (A), (E)

Options :

212807126445. 1
212807126446. 2
212807126447. 3
212807126448. 4

Question Number : 232 Question Id : 21280731612 Question Type : MCQ Option Shuffling : No Is Question Mandatory : No Calculator : None
Response Time : N.A Think Time : N.A Minimum Instruction Time : 0

Correct Marks : 5 Wrong Marks : 1

Question Key Details :

Key	Value
Comprehension	MCQ

प्रतिभूतियों के क्रय और विक्रय के लिए स्क्रीन आधारित व्यापार में शामिल चरणों को व्यवस्थित करें

- (A) दलाल आनलाइन शेयर बाजार से संपर्क स्थापित करता है तथा अंश का सर्वोत्तम उपलब्ध मूल्य का मिलान करता है
- (B) एक पंजीकृत दलाल या उप-दलाल से संपर्क करें
- (C) दलाल के साथ आदेश देना
- (D) डिपोजिटरी प्रतिभागी के पास डीमैट खाता खोलना
- (E) जब अंश क्रय/विक्रय हो जाते हैं तो इसकी सूचना दलाल के टर्मिनल पर पहुँच जाती है और आदेश निष्पादित हो जाता है

नीचे दिए गए विकल्पों में से सही उत्तर का चयन कीजिए :

- (1) (B), (D), (A), (C), (E)
- (2) (D), (B), (A), (C), (E)
- (3) (C), (A), (B), (D), (E)
- (4) (B), (D), (C), (A), (E)

Options :

- 212807126445. 1
- 212807126446. 2
- 212807126447. 3
- 212807126448. 4

Question Number : 233 Question Id : 21280731613 Question Type : MCQ Option Shuffling : No Is Question Mandatory : No Calculator : None
Response Time : N.A Think Time : N.A Minimum Instruction Time : 0

Correct Marks : 5 Wrong Marks : 1

Question Key Details :

Key	Value
Comprehension	MCQ

Read the following and select what is marketed ?

'Visit Agra-'City of Love', 'Udaipur'- 'The City of Lakes', 'Mysore- 'The City of Gardens'

- (1) Product
- (2) Persons
- (3) Place
- (4) Information

Options :

- 212807126449. 1
- 212807126450. 2
- 212807126451. 3
- 212807126452. 4

Question Number : 233 Question Id : 21280731613 Question Type : MCQ Option Shuffling : No Is Question Mandatory : No Calculator : None
Response Time : N.A Think Time : N.A Minimum Instruction Time : 0

Correct Marks : 5 Wrong Marks : 1

Question Key Details :

Key	Value
Comprehension	MCQ

निम्नलिखित को पढ़े और चुने, विपणन किसका किया गया है ?

‘आगरा’ – ‘प्रेम नगर’, ‘उदयपुर’ – ‘झीलों का नगर’, ‘मैसूर’ – ‘बागों का नगर’

- (1) उत्पाद
- (2) व्यक्ति
- (3) स्थान
- (4) सुचना

Options :

212807126449. 1
212807126450. 2
212807126451. 3
212807126452. 4

Question Number : 234 Question Id : 21280731614 Question Type : MCQ Option Shuffling : No Is Question Mandatory : No Calculator : None
Response Time : N.A Think Time : N.A Minimum Instruction Time : 0

Correct Marks : 5 Wrong Marks : 1

Question Key Details :

Key	Value
Comprehension	MCQ

‘The size and shape of the package should be such that it should be convenient to open and handle’,
Which function of packaging is this statement denoting ?

- (1) Product Identification
- (2) Facilitating the use of Product
- (3) Product Protection
- (4) Product Promotion

Options :

212807126453. 1
212807126454. 2
212807126455. 3
212807126456. 4

Question Number : 234 Question Id : 21280731614 Question Type : MCQ Option Shuffling : No Is Question Mandatory : No Calculator : None
Response Time : N.A Think Time : N.A Minimum Instruction Time : 0

Correct Marks : 5 Wrong Marks : 1

Question Key Details :

Key	Value
Comprehension	MCQ

‘पैकेज का आकार एवं स्वरूप ऐसा होना चाहिए कि खोलने और संभालने के लिए सुविधाजनक हो’, पैकेजिंग का कौन सा कार्य
यह कथन दर्शाता है ?

- (1) उत्पाद की पहचान
- (2) उत्पाद का सुविधाजनक उपयोग
- (3) उत्पाद सुरक्षा
- (4) उत्पाद प्रवर्तन

Options :

212807126453. 1
212807126454. 2
212807126455. 3
212807126456. 4

Question Number : 235 Question Id : 21280731615 Question Type : MCQ Option Shuffling : No Is Question Mandatory : No Calculator : None
Response Time : N.A Think Time : N.A Minimum Instruction Time : 0

Correct Marks : 5 Wrong Marks : 1

Question Key Details :

Key	Value
Comprehension	MCQ

The various terms related to branding includes ?

- (A) Brand
- (B) Brand Name
- (C) Brand Mark
- (D) Brand Signal
- (E) Trade Mark

Choose the correct answer from the options given below :

- (1) (A), (B), (D) and (E) Only
- (2) (A), (B), (C) and (D) Only
- (3) (A) and (B) Only
- (4) (A), (B), (C) and (E) Only

Options :

- 212807126457. 1
- 212807126458. 2
- 212807126459. 3
- 212807126460. 4

Question Number : 235 Question Id : 21280731615 Question Type : MCQ Option Shuffling : No Is Question Mandatory : No Calculator : None
Response Time : N.A Think Time : N.A Minimum Instruction Time : 0

Correct Marks : 5 Wrong Marks : 1

Question Key Details :

Key	Value
Comprehension	MCQ

ब्रांडिंग से संबंधित विभिन्न शब्दावली में सम्मिलित है ?

- (A) ब्रांड
- (B) ब्रांड नाम
- (C) ब्रांड चिन्ह
- (D) ब्रांड संकेत
- (E) ट्रेड मार्क

नीचे दिए गए विकल्पों में से सही उत्तर का चयन कीजिए :

- (1) केवल (A), (B), (D) और (E)
- (2) केवल (A), (B), (C) और (D)
- (3) केवल (A) और (B)
- (4) केवल (A), (B), (C) और (E)

Options :

- 212807126457. 1
- 212807126458. 2
- 212807126459. 3
- 212807126460. 4

Question Number : 236 Question Id : 21280731616 Question Type : MCQ Option Shuffling : No Is Question Mandatory : No Calculator : None
Response Time : N.A Think Time : N.A Minimum Instruction Time : 0

Correct Marks : 5 Wrong Marks : 1

Question Key Details :

Key	Value
Comprehension	MCQ

Identify the benefits, which is not availed by a customer while purchasing a product:-

- (1) Functional Benefits
- (2) Psychological Benefits
- (3) Saving Benefits
- (4) Social Benefits

Options :

212807126461. 1
212807126462. 2
212807126463. 3
212807126464. 4

Question Number : 236 Question Id : 21280731616 Question Type : MCQ Option Shuffling : No Is Question Mandatory : No Calculator : None
Response Time : N.A Think Time : N.A Minimum Instruction Time : 0

Correct Marks : 5 Wrong Marks : 1

Question Key Details :

Key	Value
Comprehension	MCQ

उन लाभों को पहचाने, जो ग्राहक द्वारा उत्पाद खरीदते समय प्राप्त नहीं किए गए हैं :

- (1) कार्यात्मक लाभ
- (2) मनोवैज्ञानिक लाभ
- (3) बचत लाभ
- (4) सामाजिक लाभ

Options :

212807126461. 1
212807126462. 2
212807126463. 3
212807126464. 4

Question Number : 237 Question Id : 21280731617 Question Type : MCQ Option Shuffling : No Is Question Mandatory : No Calculator : None
Response Time : N.A Think Time : N.A Minimum Instruction Time : 0

Correct Marks : 5 Wrong Marks : 1

Question Key Details :

Key	Value
Comprehension	MCQ

Who can not file a complaint before the appropriate consumer forum?

- (1) Central Government
- (2) State Government
- (3) National Commission
- (4) A registered consumer's organisation.

Options :

212807126465. 1
212807126466. 2
212807126467. 3
212807126468. 4

Question Number : 237 Question Id : 21280731617 Question Type : MCQ Option Shuffling : No Is Question Mandatory : No Calculator : None

Response Time : N.A Think Time : N.A Minimum Instruction Time : 0

Correct Marks : 5 Wrong Marks : 1

Question Key Details :

Key	Value
Comprehension	MCQ

उपर्युक्त में से कौन उपभोक्ता फोरम के समक्ष शिकायत दर्ज नहीं कर सकता है ?

- (1) केन्द्र सरकार
- (2) राज्य सरकार
- (3) राष्ट्रीय आयोग
- (4) एक पंजीकृत उपभोक्ता संगठन

Options :

212807126465. 1
212807126466. 2
212807126467. 3
212807126468. 4

Question Number : 238 Question Id : 21280731618 Question Type : MCQ Option Shuffling : No Is Question Mandatory : No Calculator : None

Response Time : N.A Think Time : N.A Minimum Instruction Time : 0

Correct Marks : 5 Wrong Marks : 1

Question Key Details :

Key	Value
Comprehension	MCQ

As per Consumer Protection Act 2019, Under which right, consumer get relief against unfair trade practices :-

- (1) Right to be heard
- (2) Right to Seek redressal
- (3) Right to be assured
- (4) Right to safety/Right to be protected

Options :

212807126469. 1
212807126470. 2
212807126471. 3
212807126472. 4

Question Number : 238 Question Id : 21280731618 Question Type : MCQ Option Shuffling : No Is Question Mandatory : No Calculator : None

Response Time : N.A Think Time : N.A Minimum Instruction Time : 0

Correct Marks : 5 Wrong Marks : 1

Question Key Details :

Key	Value
Comprehension	MCQ

उपभोक्ता संरक्षण अधिनियम, 2019 के अनुसार, किस अधिकार के तहत उपभोक्ता को अनुचित व्यापार व्यवहार के खिलाफ राहत मिलती है :

- (1) सुनवाई का अधिकार
- (2) निवारण पाने का अधिकार
- (3) आश्वस्त होने का अधिकार
- (4) सुरक्षा का अधिकार

Options :

212807126469. 1
212807126470. 2
212807126471. 3

Question Number : 239 Question Id : 21280731619 Question Type : MCQ Option Shuffling : No Is Question Mandatory : No Calculator : None
Response Time : N.A Think Time : N.A Minimum Instruction Time : 0

Correct Marks : 5 Wrong Marks : 1

Question Key Details :

Key	Value
Comprehension	MCQ

As per Consumer Protection Act 2019, Under which right, the consumer has the freedom to access variety of products at competitive prices :-

- (1) Right to Consumer Education
- (2) Right to be informed
- (3) Right to be assured
- (4) Right to be heard

Options :

- 212807126473. 1
- 212807126474. 2
- 212807126475. 3
- 212807126476. 4

Question Number : 239 Question Id : 21280731619 Question Type : MCQ Option Shuffling : No Is Question Mandatory : No Calculator : None
Response Time : N.A Think Time : N.A Minimum Instruction Time : 0

Correct Marks : 5 Wrong Marks : 1

Question Key Details :

Key	Value
Comprehension	MCQ

उपभोक्ता संरक्षण अधिनियम, 2019 के अनुसार किस अधिकार के तहत उपभोक्ता प्रतिस्पर्धी कीमतों पर विभिन्न प्रकार के उत्पाद पाने की स्वतंत्रता है :

- (1) उपभोक्ता को शिक्षा का अधिकार
- (2) सुचित किए जाने का अधिकार
- (3) आश्वस्त होने का अधिकार
- (4) सुनवाई का अधिकार

Options :

- 212807126473. 1
- 212807126474. 2
- 212807126475. 3
- 212807126476. 4

Question Number : 240 Question Id : 21280731620 Question Type : MCQ Option Shuffling : No Is Question Mandatory : No Calculator : None
Response Time : N.A Think Time : N.A Minimum Instruction Time : 0

Correct Marks : 5 Wrong Marks : 1

Question Key Details :

Key	Value
Comprehension	MCQ

_____ refers to a composite of knowledge, skills and host of psychological attributes in a person that mark his/her effectiveness

- (1) Competence
- (2) Values
- (3) Attitudes
- (4) Persistence

Options :

- 212807126477. 1

212807126478. 2
212807126479. 3
212807126480. 4

Question Number : 240 Question Id : 21280731620 Question Type : MCQ Option Shuffling : No Is Question Mandatory : No Calculator : None
Response Time : N.A Think Time : N.A Minimum Instruction Time : 0

Correct Marks : 5 Wrong Marks : 1

Question Key Details :

Key	Value
Comprehension	MCQ

_____ एक व्यक्ति में ज्ञान, कौशल और कई मनेवैज्ञानिक विशेषताओं के सम्मिश्रण को संदर्भित करता है जो उसकी प्रभावशीलता को चिन्हित करता है :

- (1) क्षमता
- (2) मूल्य
- (3) अभिवृत्ति
- (4) सत्तात्य

Options :

212807126477. 1
212807126478. 2
212807126479. 3
212807126480. 4

Sub-Section Number : 2
Sub-Section Id : 2128072494
Question Shuffling Allowed : No
Is Section Default? : null

Question Number : 241 Question Id : 21280731621 Question Type : MCQ Option Shuffling : No Is Question Mandatory : No Calculator : None
Response Time : N.A Think Time : N.A Minimum Instruction Time : 0

Correct Marks : 5 Wrong Marks : 1

Question Key Details :

Key	Value
Comprehension	Compl

Read the following case study and answer the question :

Ramu is very hungry since he did not have breakfast in the morning. By 1.00 P.M., he became restless and started walking on the road in search of a hotel for snacks or meals.

After walking for 2kms, he could find a hotel where roti and dal was available for ₹ 10. Since he had only ₹ 15 in pocket, he paid ₹ 10 and had a satisfying meal. After taking a meal, he felt that he had regained energy.

Identify the concept that leads to generation of search behaviour ?

- (1) Unsatisfied Need
- (2) Tension
- (3) Hunger
- (4) Drives

Options :

212807126481. 1
212807126482. 2
212807126483. 3
212807126484. 4

Question Number : 241 Question Id : 21280731621 Question Type : MCQ Option Shuffling : No Is Question Mandatory : No Calculator : None
Response Time : N.A Think Time : N.A Minimum Instruction Time : 0

Correct Marks : 5 Wrong Marks : 1

Question Key Details :

Key	Value
Comprehension	Comp1

निम्नलिखित व्यक्ति अध्ययन को पढ़ें और इसके आधार पर प्रश्न संख्या का उत्तर दें :

रामू को बहुत भूख लगी है क्योंकि उसने सुबह नास्ते में कुछ नहीं खाया था। देपहर 1.00 बजे तक, वह बैचैन हो गया और कुछ जलपान या खाने के लिए होटल ढूँढने के लिए सड़क पर चल पड़ा।

2 कि.मी. चलने के बाद, उसे एक होटल मिला जहाँ 10 रूपए में रोटी और दाल खाने को मिली। क्योंकि उसकी जेब में केवल 15 रूपए ही थे, उसने 10 रूपए देकर खाना खाया। खाना खाने के बाद, उसे लगा उसमें ऊर्जा वापिस आई है।

उस अवधारणा की पहचान करें जो खोज व्यवहार की उत्पत्ति को ओर ले जाती है ?

- (1) असंतुष्ट आवश्यकताएँ
- (2) तनाव
- (3) भूख
- (4) आवेग

Options :

212807126481. 1
212807126482. 2
212807126483. 3
212807126484. 4

Question Number : 242 Question Id : 21280731622 Question Type : MCQ Option Shuffling : No Is Question Mandatory : No Calculator : None
Response Time : N.A Think Time : N.A Minimum Instruction Time : 0

Correct Marks : 5 Wrong Marks : 1

Question Key Details :

Key	Value
Comprehension	Comp1

Read the following case study and answer the question :

Ramu is very hungry since he did not have breakfast in the morning. By 1.00 P.M., he became restless and started walking on the road in search of a hotel for snacks or meals.

After walking for 2kms, he could find a hotel where roti and dal was available for ₹ 10. Since he had only ₹ 15 in pocket, he paid ₹ 10 and had a satisfying meal. After taking a meal, he felt that he had regained energy.

The element of Directing to which above case study is related to, do have various importance. Select out of following, which is not its importance.

- (1) Improve performance of Employee
- (2) Reduce employee turnover
- (3) Either positive or Negative
- (4) Reduce absenteeism

Options :

212807126485. 1
212807126486. 2
212807126487. 3
212807126488. 4

Question Number : 242 Question Id : 21280731622 Question Type : MCQ Option Shuffling : No Is Question Mandatory : No Calculator : None
Response Time : N.A Think Time : N.A Minimum Instruction Time : 0

Correct Marks : 5 Wrong Marks : 1

Question Key Details :

Key	Value

निम्नलिखित व्यक्ति अध्ययन को पढ़ें और इसके आधार पर प्रश्न संख्या का उत्तर दें :

रामू को बहुत भूख लगी है क्योंकि उसने सुबह नास्ते में कुछ नहीं खाया था। देपहर 1.00 बजे तक, वह बैचैन हो गया और कुछ जलपान या खाने के लिए होटल ढूँढने के लिए सड़क पर चल पड़ा।

2 कि.मी. चलने के बाद, उसे एक होटल मिला जहाँ 10 रूपए में रोटी और दाल खाने को मिली। क्योंकि उसकी जेब में केवल 15 रूपए ही थे, उसने 10 रूपए देकर खाना खाया। खाना खाने के बाद, उसे लगा उसमें ऊर्जा वापिस आई है।

निर्देशन के जिस तत्व से उपरोक्त व्यक्ति अध्ययन संबंधित है उसका अलग-अलग महत्व है। निम्नलिखित में से वह चुनिए जो इसका महत्व नहीं हैं।

- (1) कर्मचारियों के निष्पादन में सुधार
- (2) कर्मचारी आवर्त को कम करना
- (3) धनात्मक या ऋणात्मक
- (4) अनुपस्थिति को कम करना

Options :

212807126485. 1
212807126486. 2
212807126487. 3
212807126488. 4

Question Number : 243 Question Id : 21280731623 Question Type : MCQ Option Shuffling : No Is Question Mandatory : No Calculator : None
Response Time : N.A Think Time : N.A Minimum Instruction Time : 0

Correct Marks : 5 Wrong Marks : 1

Question Key Details :

Key	Value
Comprehension	Comp1

Read the following case study and answer the question :

Ramu is very hungry since he did not have breakfast in the morning. By 1.00 P.M., he became restless and started walking on the road in search of a hotel for snacks or meals.

After walking for 2kms, he could find a hotel where roti and dal was available for ₹ 10. Since he had only ₹ 15 in pocket, he paid ₹ 10 and had a satisfying meal. After taking a meal, he felt that he had regained energy.

Identify the need of Ramu that is satisfied after taking meal.

- (1) Basic Physiological Need
- (2) Safety Need
- (3) Belonging Need
- (4) Self Actualisation Need

Options :

212807126489. 1
212807126490. 2
212807126491. 3
212807126492. 4

Question Number : 243 Question Id : 21280731623 Question Type : MCQ Option Shuffling : No Is Question Mandatory : No Calculator : None
Response Time : N.A Think Time : N.A Minimum Instruction Time : 0

Correct Marks : 5 Wrong Marks : 1

Question Key Details :

Key	Value
Comprehension	Comp1

निम्नलिखित व्यक्ति अध्ययन को पढ़ें और इसके आधार पर प्रश्न संख्या का उत्तर दें :

रामू को बहुत भूख लगी है क्योंकि उसने सुबह नास्ते में कुछ नहीं खाया था। देपहर 1.00 बजे तक, वह बैचैन हो गया और कुछ जलपान या खाने के लिए होटल ढूँढने के लिए सड़क पर चल पड़ा।

2 कि.मी. चलने के बाद, उसे एक होटल मिला जहाँ 10 रूपए में रोटी और दाल खाने को मिली। क्योंकि उसकी जेब में केवल 15 रूपए ही थे, उसने 10 रूपए देकर खाना खाया। खाना खाने के बाद, उसे लगा उसमें ऊर्जा वापिस आई है।

रामू को उस आवश्यकता की पहचान करे जो खाने के बाद संतुष्ट होती है

- (1) आधारभूत शारीरिक आवश्यकताएँ
- (2) सुरक्षा आवश्यकताएँ
- (3) जुड़ाव आवश्यकताएँ
- (4) आत्म-संतुष्टि आवश्यकताएँ

Options :

212807126489. 1
212807126490. 2
212807126491. 3
212807126492. 4

Question Number : 244 Question Id : 21280731624 Question Type : MCQ Option Shuffling : No Is Question Mandatory : No Calculator : None
Response Time : N.A Think Time : N.A Minimum Instruction Time : 0

Correct Marks : 5 Wrong Marks : 1

Question Key Details :

Key	Value
Comprehension	Comp1

Read the following case study and answer the question :

Ramu is very hungry since he did not have breakfast in the morning. By 1.00 P.M., he became restless and started walking on the road in search of a hotel for snacks or meals.

After walking for 2kms, he could find a hotel where roti and dal was available for ₹ 10. Since he had only ₹ 15 in pocket, he paid ₹ 10 and had a satisfying meal. After taking a meal, he felt that he had regained energy.

Select the concept that leads to Ramu's reduction of tension.

- (1) Hunger
- (2) Meal
- (3) Search Behaviour
- (4) Satisfied Need

Options :

212807126493. 1
212807126494. 2
212807126495. 3
212807126496. 4

Question Number : 244 Question Id : 21280731624 Question Type : MCQ Option Shuffling : No Is Question Mandatory : No Calculator : None
Response Time : N.A Think Time : N.A Minimum Instruction Time : 0

Correct Marks : 5 Wrong Marks : 1

Question Key Details :

Key	Value
Comprehension	Comp1

निम्नलिखित व्यक्ति अध्ययन को पढ़ें और इसके आधार पर प्रश्न संख्या का उत्तर दें :

रामू को बहुत भूख लगी है क्योंकि उसने सुबह नास्ते में कुछ नहीं खाया था। देपहर 1.00 बजे तक, वह बैचैन हो गया और कुछ जलपान या खाने के लिए होटल ढूँढने के लिए सड़क पर चल पड़ा।

2 कि.मी. चलने के बाद, उसे एक होटल मिला जहाँ 10 रूपए में रोटी और दाल खाने को मिली। क्योंकि उसकी जेब में केवल 15 रूपए ही थे, उसने 10 रूपए देकर खाना खाया। खाना खाने के बाद, उसे लगा उसमें ऊर्जा वापिस आई है।

उस अवधारणा का चयन करें जिससे रामू के तनाव में कमी आती है

- (1) भूख
- (2) खाना
- (3) खोजव्यवहार
- (4) संतुष्ट आवश्यकता

Options :

212807126493. 1
212807126494. 2
212807126495. 3
212807126496. 4

Question Number : 245 Question Id : 21280731625 Question Type : MCQ Option Shuffling : No Is Question Mandatory : No Calculator : None
Response Time : N.A Think Time : N.A Minimum Instruction Time : 0

Correct Marks : 5 Wrong Marks : 1

Question Key Details :

Key	Value
Comprehension	Comp1

Read the following case study and answer the question :

Ramu is very hungry since he did not have breakfast in the morning. By 1.00 P.M., he became restless and started walking on the road in search of a hotel for snacks or meals.

After walking for 2kms, he could find a hotel where roti and dal was available for ₹ 10. Since he had only ₹ 15 in pocket, he paid ₹ 10 and had a satisfying meal. After taking a meal, he felt that he had regained energy.

Ramu after having meal, is satisfied now. How it will impact him ?

- (1) Helps to improve performance
- (2) Leads to contribute minimum efforts
- (3) Helps in motivating himself to take another meal
- (4) Helps in changing his present organisation.

Options :

212807126497. 1
212807126498. 2
212807126499. 3
212807126500. 4

Question Number : 245 Question Id : 21280731625 Question Type : MCQ Option Shuffling : No Is Question Mandatory : No Calculator : None
Response Time : N.A Think Time : N.A Minimum Instruction Time : 0

Correct Marks : 5 Wrong Marks : 1

Question Key Details :

Key	Value
Comprehension	Comp1

निम्नलिखित व्यक्ति अध्ययन को पढ़ें और इसके आधार पर प्रश्न संख्या का उत्तर दें :

रामू को बहुत भूख लगी है क्योंकि उसने सुबह नास्ते में कुछ नहीं खाया था। देपहर 1.00 बजे तक, वह बैचैन हो गया और कुछ जलपान या खाने के लिए होटल ढूँढने के लिए सड़क पर चल पड़ा।

2 कि.मी. चलने के बाद, उसे एक होटल मिला जहाँ 10 रूपए में रोटी और दाल खाने को मिली। क्योंकि उसकी जेब में केवल 15 रूपए ही थे, उसने 10 रूपए देकर खाना खाया। खाना खाने के बाद, उसे लगा उसमें ऊर्जा वापिस आई है।

खाना खाने के बाद रामू अब संतुष्ट है। यह उसको कैसे प्रभावित करेगा ?

- (1) निष्पादन सुधार में सहायता करता है
- (2) न्यूनतम प्रयासों में योगदान देता है
- (3) दूसरा भोजन लेने के लिए स्वयं को अभिप्रेरित करने में सहायता करता है
- (4) अपने वर्तमान संगठन को परिवर्तन करने में सहायता करता है

Options :

212807126497. 1
212807126498. 2
212807126499. 3
212807126500. 4

Sub-Section Number : 3
Sub-Section Id : 2128072495
Question Shuffling Allowed : No
Is Section Default? : null

Question Number : 246 Question Id : 21280731626 Question Type : MCQ Option Shuffling : No Is Question Mandatory : No Calculator : None
Response Time : N.A Think Time : N.A Minimum Instruction Time : 0
Correct Marks : 5 Wrong Marks : 1

Question Key Details :

Key	Value
Comprehension	Comp2

Read the following case study and answer :

Mr. Anil is working in an MNC as a production manager. Mr. Rajat is working under him who is responsible for ordering raw material for the firm. Mr. Anil always takes care of his subordinates, but gives priority to organisational objectives. All the subordinates obey the orders of Mr. Anil. They are self-motivated to take steps.

At which level of management, Mr. Anil is working ?

- (1) Top level
- (2) Middle level
- (3) Lower Level
- (4) Operational level

Options :

212807126501. 1
212807126502. 2
212807126503. 3
212807126504. 4

Question Number : 246 Question Id : 21280731626 Question Type : MCQ Option Shuffling : No Is Question Mandatory : No Calculator : None
Response Time : N.A Think Time : N.A Minimum Instruction Time : 0
Correct Marks : 5 Wrong Marks : 1

Question Key Details :

Key	Value
Comprehension	Comp2

निम्नलिखित व्यक्ति अध्ययन को पढ़ें और इसके आधार पर प्रश्न संख्या का उत्तर दें :

श्री अनिल एक बहुराष्ट्रीय कम्पनी में उत्पादन प्रबन्धक के रूप में कार्यरत है। श्री रजत उनके अधीन काम कर रहे हैं जो फर्म के लिए कच्चे माल का आदेश देने के लिए उत्तरदायी हैं। श्री अनिल हमेशा अपने अधीनस्थों का खयाल रखते हैं परन्तु संगठनात्मक उद्देश्यों को प्राथमिकता देते हैं। सभी अधीनस्थ श्री अनिल के आदेश का पालन करते हैं। वह सब कदम उठाने के लिए स्वयं अभिप्रेरित है।

श्री अनिल, प्रबन्ध के किस स्तर पर कार्य कर रहे हैं ?

- (1) उच्च स्तरीय
- (2) मध्य स्तरीय
- (3) निम्न स्तरीय
- (4) संचालन स्तरीय

Options :

212807126501. 1
212807126502. 2
212807126503. 3
212807126504. 4

Question Number : 247 Question Id : 21280731627 Question Type : MCQ Option Shuffling : No Is Question Mandatory : No Calculator : None

Response Time : N.A Think Time : N.A Minimum Instruction Time : 0

Correct Marks : 5 Wrong Marks : 1

Question Key Details :

Key	Value
Comprehension	Comp2

Read the following case study and answer :

Mr. Anil is working in an MNC as a production manager. Mr. Rajat is working under him who is responsible for ordering raw material for the firm. Mr. Anil always takes care of his subordinates, but gives priority to organisational objectives. All the subordinates obey the orders of Mr. Anil. They are self-motivated to take steps.

Identify the Principle of management that represent the formal lines of authority between Mr. Anil and Mr. Rajat.

- (1) Equity
- (2) Scalar Chain
- (3) Subordination of individual interests to general interest
- (4) Gang Plank

Options :

212807126505. 1
212807126506. 2
212807126507. 3
212807126508. 4

Question Number : 247 Question Id : 21280731627 Question Type : MCQ Option Shuffling : No Is Question Mandatory : No Calculator : None

Response Time : N.A Think Time : N.A Minimum Instruction Time : 0

Correct Marks : 5 Wrong Marks : 1

Question Key Details :

Key	Value
Comprehension	Comp2

निम्नलिखित व्यक्ति अध्ययन को पढ़ें और इसके आधार पर प्रश्न संख्या का उत्तर दें :

श्री अनिल एक बहुराष्ट्रीय कम्पनी में उत्पादन प्रबन्धक के रूप में कार्यरत है। श्री रजत उनके अधीन काम कर रहे हैं जो फर्म के लिए कच्चे माल का आदेश देने के लिए उत्तरदायी हैं। श्री अनिल हमेशा अपने अधीनस्थों का खयाल रखते हैं परन्तु संगठनात्मक उद्देश्यों को प्राथमिकता देते हैं। सभी अधीनस्थ श्री अनिल के आदेश का पालन करते हैं। वह सब कदम उठाने के लिए स्वयं अभिप्रेरित है।

प्रबन्ध के सिद्धान्त को पहचानने जो श्री अनिल और श्री रजत के बीच अधिकार की औपचारिक रेखाओं का प्रतिनिधित्व करते हैं।

- (1) समता
- (2) सोपान श्रृंखला
- (3) सामूहिक हितों के लिए व्यक्तिगत हितों का समर्पण
- (4) समतल संपर्क

Options :

212807126505. 1
212807126506. 2
212807126507. 3
212807126508. 4

Question Number : 248 Question Id : 21280731628 Question Type : MCQ Option Shuffling : No Is Question Mandatory : No Calculator : None

Response Time : N.A Think Time : N.A Minimum Instruction Time : 0

Correct Marks : 5 Wrong Marks : 1

Question Key Details :

Key	Value
Comprehension	Comp2

Read the following case study and answer :

Mr. Anil is working in an MNC as a production manager. Mr. Rajat is working under him who is responsible for ordering raw material for the firm. Mr. Anil always takes care of his subordinates, but gives priority to organisational objectives. All the subordinates obey the orders of Mr. Anil. They are self-motivated to take steps.

“Mr. Anil always takes care of his employees but gives priority to organisational objectives” Identify the principle of management followed by Mr. Anil.

- (1) Espirit De Corps
- (2) Stability of personnel
- (3) Subordination of individual interest to general interest
- (4) Discipline

Options :

212807126509. 1
212807126510. 2
212807126511. 3
212807126512. 4

Question Number : 248 Question Id : 21280731628 Question Type : MCQ Option Shuffling : No Is Question Mandatory : No Calculator : None

Response Time : N.A Think Time : N.A Minimum Instruction Time : 0

Correct Marks : 5 Wrong Marks : 1

Question Key Details :

Key	Value
Comprehension	Comp2

निम्नलिखित व्यक्ति अध्ययन को पढ़ें और इसके आधार पर प्रश्न संख्या का उत्तर दें :

श्री अनिल एक बहुराष्ट्रीय कम्पनी में उत्पादन प्रबन्धक के रूप में कार्यरत हैं। श्री राजत उनके अधीन काम कर रहे हैं जो फर्म के लिए कच्चे माल का आदेश देने के लिए उत्तरदायी हैं। श्री अनिल हमेशा अपने अधीनस्थों का खयाल रखते हैं परन्तु संगठनात्मक उद्देश्यों को प्राथमिकता देते हैं। सभी अधीनस्थ श्री अनिल के आदेश का पालन करते हैं। वह सब कदम उठाने के लिए स्वयं अभिप्रेरित हैं।

“ श्री अनिल हमेशा अपने कर्मचारियों का खयाल रखते हैं लेकिन संगठनात्मक उद्देश्यों को प्राथमिकता देते हैं।” अनिल द्वारा अनुकरण किए गए प्रबन्ध के सिद्धान्त की पहचान कीजिए।

- (1) सहयोग की भावना
- (2) कर्मचारियों का स्थायित्व
- (3) सामूहिक हितों के लिए व्यक्तिगत हितों का समर्पण
- (4) अनुशासन

Options :

212807126509. 1
212807126510. 2
212807126511. 3
212807126512. 4

Question Number : 249 Question Id : 21280731629 Question Type : MCQ Option Shuffling : No Is Question Mandatory : No Calculator : None
Response Time : N.A Think Time : N.A Minimum Instruction Time : 0
Correct Marks : 5 Wrong Marks : 1

Question Key Details :

Key	Value
Comprehension	Comp2

Read the following case study and answer :

Mr. Anil is working in an MNC as a production manager. Mr. Rajat is working under him who is responsible for ordering raw material for the firm. Mr. Anil always takes care of his subordinates, but gives priority to organisational objectives. All the subordinates obey the orders of Mr. Anil. They are self-motivated to take steps.

“All the subordinates obey the order of Mr. Anil.” Which Principle of Management is reflected by the above statement ?

- (1) Unity of Command
- (2) Discipline
- (3) Authority and Responsibility
- (4) Espirit De Corps

Options :

212807126513. 1
212807126514. 2
212807126515. 3
212807126516. 4

Question Number : 249 Question Id : 21280731629 Question Type : MCQ Option Shuffling : No Is Question Mandatory : No Calculator : None
Response Time : N.A Think Time : N.A Minimum Instruction Time : 0
Correct Marks : 5 Wrong Marks : 1

Question Key Details :

Key	Value
Comprehension	Comp2

निम्नलिखित व्यक्ति अध्ययन को पढ़ें और इसके आधार पर प्रश्न संख्या का उत्तर दें :

श्री अनिल एक बहुराष्ट्रीय कम्पनी में उत्पादन प्रबन्धक के रूप में कार्यरत है। श्री रजत उनके अधीन काम कर रहे हैं जो फर्म के लिए कच्चे माल का आदेश देने के लिए उत्तरदायी हैं। श्री अनिल हमेशा अपने अधीनस्थों का खयाल रखते हैं परन्तु संगठनात्मक उद्देश्यों को प्राथमिकता देते हैं। सभी अधीनस्थ श्री अनिल के आदेश का पालन करते हैं। वह सब कदम उठाने के लिए स्वयं अभिप्रेरित है।

“सभी अधीनस्थ श्री अनिल के आदेश का पालन करते हैं।”

प्रबन्धन का कौन सा सिद्धान्त उपरोक्त कथन को प्रतिबिंबित करता है।

- (1) आदेश की एकता
- (2) अनुशासन
- (3) अधिकार और उत्तरदायित्व
- (4) सहयोग की भावना

Options :

212807126513. 1
212807126514. 2
212807126515. 3
212807126516. 4

Question Number : 250 Question Id : 21280731630 Question Type : MCQ Option Shuffling : No Is Question Mandatory : No Calculator : None
Response Time : N.A Think Time : N.A Minimum Instruction Time : 0

Correct Marks : 5 Wrong Marks : 1

Question Key Details :

Key	Value
Comprehension	Comp2

Read the following case study and answer :

Mr. Anil is working in an MNC as a production manager. Mr. Rajat is working under him who is responsible for ordering raw material for the firm. Mr. Anil always takes care of his subordinates, but gives priority to organisational objectives. All the subordinates obey the orders of Mr. Anil. They are self-motivated to take steps.

“All the subordinates of Mr. Anil are self-motivated to take steps” Identify the principle of management reflected from above statement.

- (1) Initiative
- (2) Espirit De Corps
- (3) Division of work
- (4) Scalar Chain

Options :

212807126517. 1
212807126518. 2
212807126519. 3
212807126520. 4

Question Number : 250 Question Id : 21280731630 Question Type : MCQ Option Shuffling : No Is Question Mandatory : No Calculator : None
Response Time : N.A Think Time : N.A Minimum Instruction Time : 0

Correct Marks : 5 Wrong Marks : 1

Question Key Details :

Key	Value
Comprehension	Comp2

निम्नलिखित व्यष्टि अध्ययन को पढ़े और इसके आधार पर प्रश्न संख्या का उत्तर दें :

श्री अनिल एक बहुराष्ट्रीय कम्पनी में उत्पादन प्रबन्धक के रूप में कार्यरत है। श्री रजत उनके अधीन काम कर रहे हैं जो फर्म के लिए कच्चे माल का आदेश देने के लिए उत्तरदायी हैं। श्री अनिल हमेशा अपने अधीनस्थों का खयाल रखते हैं परन्तु संगठनात्मक उद्देश्यों को प्राथमिकता देते हैं। सभी अधीनस्थ श्री अनिल के आदेश का पालन करते हैं। वह सब कदम उठाने के लिए स्वयं अभिप्रेरित है।

“ श्री अनिल के सभी अधीनस्थ कदम उठाने के लिए स्वयं अभिप्रेरित हैं।”

प्रबन्धन का कौन सा सिद्धान्त उपरोक्त कथन को प्रतिबिंबित होता है।

- (1) पहल क्षमता
- (2) सहयोग की भावना
- (3) कार्य विभाजन
- (4) सोपान श्रंखला

Options :

212807126517. 1
212807126518. 2
212807126519. 3
212807126520. 4

Chemistry

Group Number :	12
Group Id :	212807736
Group Maximum Duration :	60
Group Minimum Duration :	60
Show Attended Group? :	No
Edit Attended Group? :	No
Break time :	0
Group Marks :	200
Is this Group for Examiner? :	No
Examiner permission :	Cant View
Show Progress Bar? :	No

Chemistry

Section Id :	212807866
Section Number :	1
Section type :	Online
Mandatory or Optional :	Mandatory
Number of Questions :	50
Number of Questions to be attempted :	40
Section Marks :	200
Enable Mark as Answered Mark for Review and Clear Response :	Yes
Maximum Instruction Time :	0
Sub-Section Number :	1
Sub-Section Id :	2128072496
Question Shuffling Allowed :	Yes
Is Section Default? :	null

Question Number : 251 Question Id : 21280731631 Question Type : MCQ Option Shuffling : No Is Question Mandatory : No Calculator : None
Response Time : N.A Think Time : N.A Minimum Instruction Time : 0

Correct Marks : 5 Wrong Marks : 1

Question Key Details :

Key	Value
-----	-------

Which among the following solids is an example of ionic solid ?

- (1) Fe, Cu, Ag, Mg
- (2) NaCl, MgO, ZnS
- (3) Ar, CCl₄
- (4) SiO₂, SiC

Options :

212807126521. 1
212807126522. 2
212807126523. 3
212807126524. 4

Question Number : 251 Question Id : 21280731631 Question Type : MCQ Option Shuffling : No Is Question Mandatory : No Calculator : None
Response Time : N.A Think Time : N.A Minimum Instruction Time : 0

Correct Marks : 5 Wrong Marks : 1

Question Key Details :

Key	Value
Comprehension	MCQ

निम्न में से कौन-सा ठोस आयनिक ठोस का एक उदाहरण है ?

- (1) Fe, Cu, Ag, Mg
- (2) NaCl, MgO, ZnS
- (3) Ar, CCl₄
- (4) SiO₂, SiC

Options :

212807126521. 1
212807126522. 2
212807126523. 3
212807126524. 4

Question Number : 252 Question Id : 21280731632 Question Type : MCQ Option Shuffling : No Is Question Mandatory : No Calculator : None
Response Time : N.A Think Time : N.A Minimum Instruction Time : 0

Correct Marks : 5 Wrong Marks : 1

Question Key Details :

Key	Value
Comprehension	MCQ

Match List - I with List - II.

List - I

List - II

- | | |
|---------------------|------------------------|
| (A) Molecular solid | (I) CaF ₂ |
| (B) Ionic solid | (II) Cu |
| (C) Metallic solid | (III) CCl ₄ |
| (D) Covalent solid | (IV) SiC |

Choose the correct answer from the options given below :

- (1) (A)-(I), (B)-(III), (C)-(II), (D)-(IV)
- (2) (A)-(III), (B)-(IV), (C)-(II), (D)-(I)
- (3) (A)-(IV), (B)-(I), (C)-(II), (D)-(III)
- (4) (A)-(III), (B)-(I), (C)-(II), (D)-(IV)

Options :

212807126525. 1
212807126526. 2
212807126527. 3
212807126528. 4

Question Number : 252 Question Id : 21280731632 Question Type : MCQ Option Shuffling : No Is Question Mandatory : No Calculator : None
Response Time : N.A Think Time : N.A Minimum Instruction Time : 0

Correct Marks : 5 Wrong Marks : 1

Question Key Details :

Key	Value
Comprehension	MCQ

सूची - I को सूची - II के साथ मिलान कीजिए।

सूची - I

सूची - II

- | | |
|------------------|----------------------|
| (A) आण्विक ठोस | (I) CaF_2 |
| (B) आयनिक ठोस | (II) Cu |
| (C) धात्विक ठोस | (III) CCl_4 |
| (D) सहसंयोजक ठोस | (IV) SiC |

नीचे दिये गये विकल्पों में से सही उत्तर का चयन कीजिए :

- (1) (A)-(I), (B)-(III), (C)-(II), (D)-(IV)
- (2) (A)-(III), (B)-(IV), (C)-(II), (D)-(I)
- (3) (A)-(IV), (B)-(I), (C)-(II), (D)-(III)
- (4) (A)-(III), (B)-(I), (C)-(II), (D)-(IV)

Options :

212807126525. 1
212807126526. 2
212807126527. 3
212807126528. 4

Question Number : 253 Question Id : 21280731633 Question Type : MCQ Option Shuffling : No Is Question Mandatory : No Calculator : None
Response Time : N.A Think Time : N.A Minimum Instruction Time : 0

Correct Marks : 5 Wrong Marks : 1

Question Key Details :

Key	Value
Comprehension	MCQ

Which of the given alkylhalide would undergo racemisation when hydrolysis is done with aq. KOH ?

- (1) Ethyl Chloride
- (2) n-propyl Chloride
- (3) isopropyl Chloride
- (4) n-butyl Chloride

Options :

212807126529. 1
212807126530. 2
212807126531. 3
212807126532. 4

Question Number : 253 Question Id : 21280731633 Question Type : MCQ Option Shuffling : No Is Question Mandatory : No Calculator : None
Response Time : N.A Think Time : N.A Minimum Instruction Time : 0

Correct Marks : 5 Wrong Marks : 1

Question Key Details :

Key	Value
Comprehension	MCQ

दिए गए ऐल्किल हैलाइड में कौन-सा जलीय KOH के साथ जल अपघटन करने से रेसिमिक उत्पाद देगा ?

- (1) एथिल क्लोराइड
- (2) n-प्रोपिल क्लोराइड
- (3) आइसोप्रोपिल क्लोराइड
- (4) n-ब्यूटिल क्लोराइड

Options :

212807126529. 1
212807126530. 2
212807126531. 3
212807126532. 4

Question Number : 254 Question Id : 21280731634 Question Type : MCQ Option Shuffling : No Is Question Mandatory : No Calculator : None
Response Time : N.A Think Time : N.A Minimum Instruction Time : 0

Correct Marks : 5 Wrong Marks : 1

Question Key Details :

Key	Value
Comprehension	MCQ

Which of the following is not characteristic of chemisorption ?

- (1) Highly specific
- (2) Irreversible
- (3) Results in unimolecular layer
- (4) Low enthalphy of adsorption

Options :

212807126533. 1
212807126534. 2
212807126535. 3
212807126536. 4

Question Number : 254 Question Id : 21280731634 Question Type : MCQ Option Shuffling : No Is Question Mandatory : No Calculator : None
Response Time : N.A Think Time : N.A Minimum Instruction Time : 0

Correct Marks : 5 Wrong Marks : 1

Question Key Details :

Key	Value
Comprehension	MCQ

निम्न में से कौन-सा रसोवशोषण का अभिलक्षण नहीं है ?

- (1) अति विशिष्ट
- (2) अनुत्क्रमणीय
- (3) परिमाण स्वरूप एकल आण्विक सतह
- (4) निम्न अधिशोषण की एन्थैल्पी

Options :

212807126533. 1
212807126534. 2
212807126535. 3
212807126536. 4

Question Number : 255 Question Id : 21280731635 Question Type : MCQ Option Shuffling : No Is Question Mandatory : No Calculator : None
Response Time : N.A Think Time : N.A Minimum Instruction Time : 0

Correct Marks : 5 Wrong Marks : 1

Question Key Details :

Key	Value
Comprehension	MCQ

Predict the shape of XeOF_4 on the basis of VSEPR theory

- (1) Linear
- (2) Square pyramidal
- (3) Pyramidal
- (4) Square planar

Options :

212807126537. 1
212807126538. 2
212807126539. 3
212807126540. 4

Question Number : 255 Question Id : 21280731635 Question Type : MCQ Option Shuffling : No Is Question Mandatory : No Calculator : None
Response Time : N.A Think Time : N.A Minimum Instruction Time : 0

Correct Marks : 5 Wrong Marks : 1

Question Key Details :

Key	Value
Comprehension	MCQ

VSEPR के आधार पर XeOF_4 की आकृति को अनुमानित कीजिए :

- (1) रेखीय
- (2) वर्ग पिरैमिडी
- (3) पिरैमिडी
- (4) वर्ग समतली

Options :

212807126537. 1
212807126538. 2
212807126539. 3
212807126540. 4

Question Number : 256 Question Id : 21280731636 Question Type : MCQ Option Shuffling : No Is Question Mandatory : No Calculator : None
Response Time : N.A Think Time : N.A Minimum Instruction Time : 0

Correct Marks : 5 Wrong Marks : 1

Question Key Details :

Key	Value
Comprehension	MCQ

A galvanic cell converts :

- (1) Electrical energy to chemical energy
- (2) Chemical energy to electrical energy
- (3) Light energy to electrical energy
- (4) Electrical energy to light energy

Options :

212807126541. 1
212807126542. 2
212807126543. 3
212807126544. 4

Question Number : 256 Question Id : 21280731636 Question Type : MCQ Option Shuffling : No Is Question Mandatory : No Calculator : None
Response Time : N.A Think Time : N.A Minimum Instruction Time : 0

Correct Marks : 5 Wrong Marks : 1

Question Key Details :

Key	Value
Comprehension	MCQ

एक गैल्वैनी सेल परिवर्तित करता है :

- (1) वैद्युत ऊर्जा को रासायनिक ऊर्जा में
- (2) रासायनिक ऊर्जा को वैद्युत ऊर्जा में
- (3) प्रकाश ऊर्जा को वैद्युत ऊर्जा में
- (4) वैद्युत ऊर्जा को प्रकाश ऊर्जा में

Options :

212807126541. 1
212807126542. 2
212807126543. 3
212807126544. 4

Question Number : 257 Question Id : 21280731637 Question Type : MCQ Option Shuffling : No Is Question Mandatory : No Calculator : None
Response Time : N.A Think Time : N.A Minimum Instruction Time : 0

Correct Marks : 5 Wrong Marks : 1

Question Key Details :

Key	Value
Comprehension	MCQ

The **incorrect** equation for Arrhenius equation for activation energy is :

- (1) $\ln k = \ln A - \frac{E_a}{RT} \ln e$
- (2) $\log k = - \frac{E_a}{2.303 R} \frac{1}{T \times \log A}$
- (3) $\log \frac{k_2}{k_1} = \frac{E_a}{2.303 R} \left(\frac{T_2 - T_1}{T_1 T_2} \right)$
- (4) $\log k = - \frac{E_a}{2.303 R} \times \frac{1}{T} + \log A$

Options :

212807126545. 1
212807126546. 2
212807126547. 3
212807126548. 4

Question Number : 257 Question Id : 21280731637 Question Type : MCQ Option Shuffling : No Is Question Mandatory : No Calculator : None
Response Time : N.A Think Time : N.A Minimum Instruction Time : 0

Correct Marks : 5 Wrong Marks : 1

Question Key Details :

Key	Value
Comprehension	MCQ

सक्रियण ऊर्जा के लिए अरेनियस समीकरण निम्न में से सही नहीं है?

$$(1) \ln k = \ln A - \frac{E_a}{RT} \ln e$$

$$(2) \log k = - \frac{E_a}{2.303 R} \frac{1}{T \times \log A}$$

$$(3) \log \frac{k_2}{k_1} = \frac{E_a}{2.303 R} \left(\frac{T_2 - T_1}{T_1 T_2} \right)$$

$$(4) \log k = - \frac{E_a}{2.303 R} \times \frac{1}{T} + \log A$$

Options :

212807126545. 1

212807126546. 2

212807126547. 3

212807126548. 4

Question Number : 258 Question Id : 21280731638 Question Type : MCQ Option Shuffling : No Is Question Mandatory : No Calculator : None
Response Time : N.A Think Time : N.A Minimum Instruction Time : 0

Correct Marks : 5 Wrong Marks : 1

Question Key Details :

Key	Value
Comprehension	MCQ

During bromination of phenol, lewis acid is not necessary required because of :

- (1) Electromeric effect
- (2) Inductive effect of -OH group
- (3) +R effect of -OH group
- (4) Deactivating effect of -OH group

Options :

212807126549. 1

212807126550. 2

212807126551. 3

212807126552. 4

Question Number : 258 Question Id : 21280731638 Question Type : MCQ Option Shuffling : No Is Question Mandatory : No Calculator : None
Response Time : N.A Think Time : N.A Minimum Instruction Time : 0

Correct Marks : 5 Wrong Marks : 1

Question Key Details :

Key	Value
Comprehension	MCQ

फीनॉल के ब्रोमीन के समय लुईस अम्ल की आवश्यकता नहीं है क्योंकि :

- (1) इलेक्ट्रोमेरी प्रभाव
- (2) -OH समूह प्रेरणिक प्रभाव
- (3) -OH समूह का +R प्रभाव
- (4) -OH समूह का निष्क्रियक प्रभाव

Options :

212807126549. 1

212807126550. 2

212807126551. 3

212807126552. 4

Question Number : 259 Question Id : 21280731639 Question Type : MCQ Option Shuffling : No Is Question Mandatory : No Calculator : None
Response Time : N.A Think Time : N.A Minimum Instruction Time : 0

Correct Marks : 5 Wrong Marks : 1

Question Key Details :

Key	Value
Comprehension	MCQ

In the formation of a leclanche cell, the space between electrodes is filled with :

- (A) $ZnCl_2$
- (B) NH_4Cl
- (C) $AlCl_3$
- (D) ZnS
- (E) NH_4NO_3

Choose the correct answer from the options given below :

- (1) (A) and (E) only
- (2) (A) and (B) only
- (3) (C) and (D) only
- (4) (D) and (E) only

Options :

212807126553. 1

212807126554. 2

212807126555. 3

212807126556. 4

Question Number : 259 Question Id : 21280731639 Question Type : MCQ Option Shuffling : No Is Question Mandatory : No Calculator : None
Response Time : N.A Think Time : N.A Minimum Instruction Time : 0

Correct Marks : 5 Wrong Marks : 1

Question Key Details :

Key	Value
Comprehension	MCQ

लैक्लान्शे सेल के बनने में इलेक्ट्रोड के बीच का अन्तराल _____ भरा होता है :

- (A) $ZnCl_2$
- (B) NH_4Cl
- (C) $AlCl_3$
- (D) ZnS
- (E) NH_4NO_3

नीचे दिये गये विकल्पों में से सही उत्तर का चयन कीजिए :

- (1) केवल (A) तथा (E)
- (2) केवल (A) तथा (B)
- (3) केवल (C) तथा (D)
- (4) केवल (D) तथा (E)

Options :

212807126553. 1

212807126554. 2

212807126555. 3

212807126556. 4

Question Number : 260 Question Id : 21280731640 Question Type : MCQ Option Shuffling : No Is Question Mandatory : No Calculator : None
Response Time : N.A Think Time : N.A Minimum Instruction Time : 0

Correct Marks : 5 Wrong Marks : 1

Question Key Details :

Key	Value
Comprehension	MCQ

Match List - I with List - II.

List - I	List - II
(A) Aluminium	(I) Calamine
(B) Iron	(II) Bauxite
(C) Copper	(III) Malachite
(D) Zinc	(IV) Siderite

Choose the correct answer from the options given below :

- (1) (A)-(II), (B)-(IV), (C)-(III), (D)-(I)
- (2) (A)-(II), (B)-(IV), (C)-(I), (D)-(III)
- (3) (A)-(II), (B)-(I), (C)-(III), (D)-(IV)
- (4) (A)-(II), (B)-(III), (C)-(IV), (D)-(I)

Options :

212807126557. 1
212807126558. 2
212807126559. 3
212807126560. 4

Question Number : 260 Question Id : 21280731640 Question Type : MCQ Option Shuffling : No Is Question Mandatory : No Calculator : None
Response Time : N.A Think Time : N.A Minimum Instruction Time : 0

Correct Marks : 5 Wrong Marks : 1

Question Key Details :

Key	Value
Comprehension	MCQ

सूची - I को सूची - II के साथ मिलान कीजिए।

सूची - I	सूची - II
(A) ऐल्युमिनियम	(I) कैलामाइन
(B) आयरन	(II) बॉक्साइट
(C) कॉपर	(III) मेलाकाइट
(D) जिंक	(IV) सिडेराइट

नीचे दिये गये विकल्पों में से सही उत्तर का चयन कीजिए :

- (1) (A)-(II), (B)-(IV), (C)-(III), (D)-(I)
- (2) (A)-(II), (B)-(IV), (C)-(I), (D)-(III)
- (3) (A)-(II), (B)-(I), (C)-(III), (D)-(IV)
- (4) (A)-(II), (B)-(III), (C)-(IV), (D)-(I)

Options :

212807126557. 1
212807126558. 2
212807126559. 3
212807126560. 4

Question Number : 261 Question Id : 21280731641 Question Type : MCQ Option Shuffling : No Is Question Mandatory : No Calculator : None
Response Time : N.A Think Time : N.A Minimum Instruction Time : 0

Correct Marks : 5 Wrong Marks : 1

Question Key Details :

Key	Value
Comprehension	MCQ

Chemisorption is favoured by

- (1) low enthalpy of adsorption
- (2) decreased surface area of the adsorbent
- (3) high pressure
- (4) low temperature

Options :

- 212807126561. 1
- 212807126562. 2
- 212807126563. 3
- 212807126564. 4

Question Number : 261 Question Id : 21280731641 Question Type : MCQ Option Shuffling : No Is Question Mandatory : No Calculator : None Response Time : N.A Think Time : N.A Minimum Instruction Time : 0

Correct Marks : 5 Wrong Marks : 1

Question Key Details :

Key	Value
Comprehension	MCQ

रसावशोषण के लिए _____ सहायक है।

- (1) अधिशोषण की एन्थैपी निम्न होने
- (2) अधिशोषण के पृष्ठ का क्षेत्रफल घटने
- (3) उच्च दाब
- (4) निम्न ताप

Options :

- 212807126561. 1
- 212807126562. 2
- 212807126563. 3
- 212807126564. 4

Question Number : 262 Question Id : 21280731642 Question Type : MCQ Option Shuffling : No Is Question Mandatory : No Calculator : None Response Time : N.A Think Time : N.A Minimum Instruction Time : 0

Correct Marks : 5 Wrong Marks : 1

Question Key Details :

Key	Value
Comprehension	MCQ

Aldehydes form gem-dialkoxy compound when they are reacted with :

- (1) one equivalent of monohydric alcohol in the presence of dry hydrogen chloride
- (2) two equivalent of monohydric alcohol in the presence of dry hydrogen chloride
- (3) ethylene glycol in the presence of dry hydrogen chloride
- (4) hydrogen cyanide in the presence of sodium hydroxide

Options :

- 212807126565. 1
- 212807126566. 2
- 212807126567. 3
- 212807126568. 4

Question Number : 262 Question Id : 21280731642 Question Type : MCQ Option Shuffling : No Is Question Mandatory : No Calculator : None Response Time : N.A Think Time : N.A Minimum Instruction Time : 0

Correct Marks : 5 Wrong Marks : 1

Question Key Details :

Key	Value
Comprehension	MCQ

ऐल्लिडहाइड जेम-डाईएल्कोक्सी यौगिक बनाता है, जब उसके साथ _____ अभिक्रिया करते हैं।

- (1) शुष्क हाइड्रोजन क्लोराइड की उपस्थिति में मोनो हाइड्रिक ऐल्कोहॉल के एक तुल्यांक से
- (2) शुष्क हाइड्रोजन क्लोराइड की उपस्थिति में मोनोहाइड्रिक ऐल्कोहॉल के दो तुल्यांकों से
- (3) शुष्क हाइड्रोजन क्लोराइड की उपस्थिति में एथिलिन ग्लाइकोल से
- (4) सोडियम हाइड्रोक्साइड की उपस्थिति में हाइड्रोजन सायनाइड से

Options :

212807126565. 1
212807126566. 2
212807126567. 3
212807126568. 4

Question Number : 263 Question Id : 21280731643 Question Type : MCQ Option Shuffling : No Is Question Mandatory : No Calculator : None
Response Time : N.A Think Time : N.A Minimum Instruction Time : 0

Correct Marks : 5 Wrong Marks : 1

Question Key Details :

Key	Value
Comprehension	MCQ

Which of the following statements is **not** correct about cell potential ?

- (1) Difference in the electrode potential
- (2) Measured when current is flowing
- (3) Cell potential depends on temperature
- (4) Measured by potentiometer

Options :

212807126569. 1
212807126570. 2
212807126571. 3
212807126572. 4

Question Number : 263 Question Id : 21280731643 Question Type : MCQ Option Shuffling : No Is Question Mandatory : No Calculator : None
Response Time : N.A Think Time : N.A Minimum Instruction Time : 0

Correct Marks : 5 Wrong Marks : 1

Question Key Details :

Key	Value
Comprehension	MCQ

निम्न में से कौन-सा कथन सेल विभव के बारे में सही नहीं है?

- (1) इलेक्ट्रोड विभव में भिन्नता
- (2) जब धारा प्रवाह होती है तब मापा गया
- (3) सेल विभव तापमान पर निर्भर करता है
- (4) विभवमापी द्वारा मापा गया

Options :

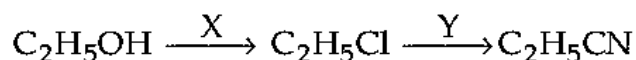
212807126569. 1
212807126570. 2
212807126571. 3
212807126572. 4

Question Number : 264 Question Id : 21280731644 Question Type : MCQ Option Shuffling : No Is Question Mandatory : No Calculator : None
Response Time : N.A Think Time : N.A Minimum Instruction Time : 0

Correct Marks : 5 Wrong Marks : 1

Question Key Details :

Key	Value
Comprehension	MCQ



X and Y used the in above reaction are :

- (1) HgCl_2 and AgCN
- (2) SOCl_2 and KCN
- (3) Cl_2 and KCN
- (4) ZnCl_2/HCl and AgCN

Options :

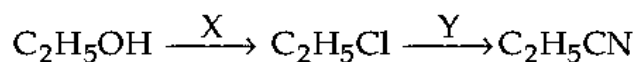
212807126573. 1
 212807126574. 2
 212807126575. 3
 212807126576. 4

Question Number : 264 Question Id : 21280731644 Question Type : MCQ Option Shuffling : No Is Question Mandatory : No Calculator : None
 Response Time : N.A Think Time : N.A Minimum Instruction Time : 0

Correct Marks : 5 Wrong Marks : 1

Question Key Details :

Key	Value
Comprehension	MCQ



ऊपर दी गई अभिक्रिया में प्रयुक्त X एवं Y हैं :

- (1) HgCl_2 एवं AgCN
- (2) SOCl_2 एवं KCN
- (3) Cl_2 एवं KCN
- (4) ZnCl_2/HCl एवं AgCN

Options :

212807126573. 1
 212807126574. 2
 212807126575. 3
 212807126576. 4

Question Number : 265 Question Id : 21280731645 Question Type : MCQ Option Shuffling : No Is Question Mandatory : No Calculator : None
 Response Time : N.A Think Time : N.A Minimum Instruction Time : 0

Correct Marks : 5 Wrong Marks : 1

Question Key Details :

Key	Value
Comprehension	MCQ

An inorganic salt taken in a test tube was mixed with of freshly prepared ferrous sulphate solution. Concentrated sulphuric acid was then added along the walls of the test tube. Predict the formula of the compound formed :

- (1) $[\text{Fe}(\text{NO})_4(\text{SO}_4)_2]^+$
- (2) $[\text{Fe}(\text{NO})_5\text{H}_2\text{O}]^+$
- (3) $[\text{Fe}(\text{NO})_2(\text{H}_2\text{O})_2(\text{SO}_4)_2]^+$
- (4) $[\text{Fe}(\text{H}_2\text{O})_5\text{NO}]^{2+}$

Options :

212807126577. 1
 212807126578. 2
 212807126579. 3
 212807126580. 4

Question Number : 265 Question Id : 21280731645 Question Type : MCQ Option Shuffling : No Is Question Mandatory : No Calculator : None
Response Time : N.A Think Time : N.A Minimum Instruction Time : 0

Correct Marks : 5 Wrong Marks : 1

Question Key Details :

Key	Value
Comprehension	MCQ

एक परखनली में लिए गए अकार्बनिक लवण में ताजा बना फेरस सल्फेट में मिश्रित किया गया। इसके पश्चात परखनली की दीवार के सहारे सान्द्र सल्फ्यूरिक अम्ल डाला गया। बनने वाले यौगिक के सूत्र का परिकलन कीजिए :

- (1) $[\text{Fe}(\text{NO})_4(\text{SO}_4)_2]^+$
- (2) $[\text{Fe}(\text{NO})_5\text{H}_2\text{O}]^+$
- (3) $[\text{Fe}(\text{NO})_2(\text{H}_2\text{O})_2(\text{SO}_4)_2]^+$
- (4) $[\text{Fe}(\text{H}_2\text{O})_5\text{NO}]^{2+}$

Options :

212807126577. 1

212807126578. 2

212807126579. 3

212807126580. 4

Question Number : 266 Question Id : 21280731646 Question Type : MCQ Option Shuffling : No Is Question Mandatory : No Calculator : None
Response Time : N.A Think Time : N.A Minimum Instruction Time : 0

Correct Marks : 5 Wrong Marks : 1

Question Key Details :

Key	Value
Comprehension	MCQ

Addition of HCN to carbonyl group results in formation of :

- (1) Cyanides
- (2) Isocyanide
- (3) Cyano hydrins
- (4) Aldehydeles

Options :

212807126581. 1

212807126582. 2

212807126583. 3

212807126584. 4

Question Number : 266 Question Id : 21280731646 Question Type : MCQ Option Shuffling : No Is Question Mandatory : No Calculator : None
Response Time : N.A Think Time : N.A Minimum Instruction Time : 0

Correct Marks : 5 Wrong Marks : 1

Question Key Details :

Key	Value
Comprehension	MCQ

कार्बोनिल समूह का HCN के साथ संयोजन कराने पर _____ बनता है।

- (1) सायनाइड
- (2) आइसोसायनाइड
- (3) सायनो हाइड्रिन
- (4) ऐल्डिहाइड

Options :

212807126581. 1

212807126582. 2

212807126583. 3

212807126584. 4

Question Number : 267 Question Id : 21280731647 Question Type : MCQ Option Shuffling : No Is Question Mandatory : No Calculator : None
Response Time : N.A Think Time : N.A Minimum Instruction Time : 0

Correct Marks : 5 Wrong Marks : 1

Question Key Details :

Key	Value
Comprehension	MCQ

The number of unpaired electron in gaseous ions Mn^{3+} ($Z = 26$), V^{3+} ($Z = 23$), Cr^{3+} ($Z = 24$) are respectively :

- (1) 4, 2, 3
- (2) 4, 4, 2
- (3) 3, 2, 4
- (4) 3, 4, 2

Options :

- 212807126585. 1
- 212807126586. 2
- 212807126587. 3
- 212807126588. 4

Question Number : 267 Question Id : 21280731647 Question Type : MCQ Option Shuffling : No Is Question Mandatory : No Calculator : None
Response Time : N.A Think Time : N.A Minimum Instruction Time : 0

Correct Marks : 5 Wrong Marks : 1

Question Key Details :

Key	Value
Comprehension	MCQ

Mn^{3+} ($Z = 26$), V^{3+} ($Z = 23$), Cr^{3+} ($Z = 24$) के गैसीय आयनों में आयुग्मित इलेक्ट्रॉन की संख्या क्रमशः है :

- (1) 4, 2, 3
- (2) 4, 4, 2
- (3) 3, 2, 4
- (4) 3, 4, 2

Options :

- 212807126585. 1
- 212807126586. 2
- 212807126587. 3
- 212807126588. 4

Question Number : 268 Question Id : 21280731648 Question Type : MCQ Option Shuffling : No Is Question Mandatory : No Calculator : None
Response Time : N.A Think Time : N.A Minimum Instruction Time : 0

Correct Marks : 5 Wrong Marks : 1

Question Key Details :

Key	Value
Comprehension	MCQ

The process used for the conversion of sugar into Ethanol is :

- (1) Distillation
- (2) Dehydration
- (3) Denaturation
- (4) Fermentation

Options :

- 212807126589. 1
- 212807126590. 2
- 212807126591. 3
- 212807126592. 4

Question Number : 268 Question Id : 21280731648 Question Type : MCQ Option Shuffling : No Is Question Mandatory : No Calculator : None
Response Time : N.A Think Time : N.A Minimum Instruction Time : 0

Correct Marks : 5 Wrong Marks : 1

Question Key Details :

Key	Value
Comprehension	MCQ

शर्करा का इथेनॉल के रूपान्तरण के लिए उपयोग होने वाली विधि :

- (1) आसवन
- (2) निर्जलीकरण
- (3) विकृतीकरण
- (4) किण्वन

Options :

212807126589. 1
212807126590. 2
212807126591. 3
212807126592. 4

Question Number : 269 Question Id : 21280731649 Question Type : MCQ Option Shuffling : No Is Question Mandatory : No Calculator : None
Response Time : N.A Think Time : N.A Minimum Instruction Time : 0

Correct Marks : 5 Wrong Marks : 1

Question Key Details :

Key	Value
Comprehension	MCQ

Mercury is not considered as transition metal however it has tendency to react with chlorine to form chlorides X and Y. X reacts with KI to give red ppt while Y doesn't react. On the contrary, Y react with NH_4OH to give a black ppt. Predict the formula of X and Y :

- (1) $\text{X} = \text{Hg}_2\text{Cl}_2$, $\text{Y} = \text{HgCl}$
- (2) $\text{X} = \text{Hg}_2\text{Cl}_2$, $\text{Y} = \text{HgCl}_2$
- (3) $\text{X} = \text{HgCl}$, $\text{Y} = \text{HgCl}_2$
- (4) $\text{X} = \text{HgCl}_2$, $\text{Y} = \text{Hg}_2\text{Cl}_2$

Options :

212807126593. 1
212807126594. 2
212807126595. 3
212807126596. 4

Question Number : 269 Question Id : 21280731649 Question Type : MCQ Option Shuffling : No Is Question Mandatory : No Calculator : None
Response Time : N.A Think Time : N.A Minimum Instruction Time : 0

Correct Marks : 5 Wrong Marks : 1

Question Key Details :

Key	Value
Comprehension	MCQ

मरकरी संक्रमण धातु में सम्मिलित नहीं है यद्यपि यह क्लोरिन से अभिक्रिया कर क्लोराइड X तथा Y बनाता है। X, KI के साथ अभिक्रिया करके लाल अवक्षेप देता है तथा Y अभिक्रिया नहीं करता। इसके विपरीत Y, NH_4OH के साथ अभिक्रिया कर काला अवक्षेप देता है। X तथा Y का सूत्र परिकल्पित कीजिए :

- (1) $\text{X} = \text{Hg}_2\text{Cl}_2$, $\text{Y} = \text{HgCl}$
- (2) $\text{X} = \text{Hg}_2\text{Cl}_2$, $\text{Y} = \text{HgCl}_2$
- (3) $\text{X} = \text{HgCl}$, $\text{Y} = \text{HgCl}_2$
- (4) $\text{X} = \text{HgCl}_2$, $\text{Y} = \text{Hg}_2\text{Cl}_2$

Options :

212807126593. 1
212807126594. 2
212807126595. 3

Question Number : 270 Question Id : 21280731650 Question Type : MCQ Option Shuffling : No Is Question Mandatory : No Calculator : None
Response Time : N.A Think Time : N.A Minimum Instruction Time : 0

Correct Marks : 5 Wrong Marks : 1

Question Key Details :

Key	Value
Comprehension	MCQ

The IUPAC name of the coordination compound $[\text{CoCl}_2(\text{en})_2]^+$ is :

- (1) Dichlorobis (ethane 1, 2-diamine) Cobalt (III)
- (2) Dichlorido ethylene diammine Cobalt (I)
- (3) Dichlorodiethylene diammine Cobalt (III)
- (4) Dichloridobis (ethane - 1, 2-diamine) Cobalt (III)

Options :

212807126597. 1
212807126598. 2
212807126599. 3
212807126600. 4

Question Number : 270 Question Id : 21280731650 Question Type : MCQ Option Shuffling : No Is Question Mandatory : No Calculator : None
Response Time : N.A Think Time : N.A Minimum Instruction Time : 0

Correct Marks : 5 Wrong Marks : 1

Question Key Details :

Key	Value
Comprehension	MCQ

$[\text{CoCl}_2(\text{en})_2]^+$ उपसह संयोजक यौगिक का IUPAC नाम है :

- (1) डाइक्लोरोबिस (एथेन 1, 2-डाईएमीन) कोबाल्ट (III)
- (2) डाइक्लोरिडो एथिलिन डाईएमीन कोबाल्ट (I)
- (3) डाईक्लोरोडाईएथिलीन डाईएमीन कोबाल्ट (III)
- (4) डाईक्लोरिडो बिस (एथेन-1, 2- डाईएमीन) कोबाल्ट (III)

Options :

212807126597. 1
212807126598. 2
212807126599. 3
212807126600. 4

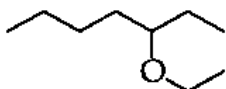
Question Number : 271 Question Id : 21280731651 Question Type : MCQ Option Shuffling : No Is Question Mandatory : No Calculator : None
Response Time : N.A Think Time : N.A Minimum Instruction Time : 0

Correct Marks : 5 Wrong Marks : 1

Question Key Details :

Key	Value
Comprehension	MCQ

Correct IUPAC name of the compound given below is :



- (1) 5-Ethoxy heptane
- (2) 3-Ethoxy heptane
- (3) 1-Heptoxy ethane
- (4) 1-methyl-2-ethoxy hexane

Options :

212807126601. 1
212807126602. 2

212807126603. 3
212807126604. 4

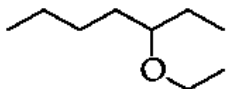
Question Number : 271 Question Id : 21280731651 Question Type : MCQ Option Shuffling : No Is Question Mandatory : No Calculator : None
Response Time : N.A Think Time : N.A Minimum Instruction Time : 0

Correct Marks : 5 Wrong Marks : 1

Question Key Details :

Key	Value
Comprehension	MCQ

नीचे दिये गये यौगिक का सही IUPAC नाम है :



- (1) 5-ऐथॉक्सी हेप्टेन
- (2) 3-ऐथॉक्सी हेप्टेन
- (3) 1-हेप्टॉक्सी एथेन
- (4) 1-मेथिल-2-ऐथॉक्सी हेक्सेन

Options :

212807126601. 1
212807126602. 2
212807126603. 3
212807126604. 4

Question Number : 272 Question Id : 21280731652 Question Type : MCQ Option Shuffling : No Is Question Mandatory : No Calculator : None
Response Time : N.A Think Time : N.A Minimum Instruction Time : 0

Correct Marks : 5 Wrong Marks : 1

Question Key Details :

Key	Value
Comprehension	MCQ

Actinoid contraction is of greater extent than lanthanide contraction because :

- (1) poor shielding effect of 4f electrons
- (2) poor shielding effect of 5d electrons
- (3) more poor shielding effect of 5f electrons than 4f electrons
- (4) more poor shielding effect of 4f electrons than 5f electrons

Options :

212807126605. 1
212807126606. 2
212807126607. 3
212807126608. 4

Question Number : 272 Question Id : 21280731652 Question Type : MCQ Option Shuffling : No Is Question Mandatory : No Calculator : None
Response Time : N.A Think Time : N.A Minimum Instruction Time : 0

Correct Marks : 5 Wrong Marks : 1

Question Key Details :

Key	Value
Comprehension	MCQ

ऐक्टिनॉयड आंकुचन लैन्थेनॉयड आंकुचन से अधिक मात्रा में होता है क्योंकि :

- (1) 4f इलेक्ट्रानों का दुर्बल परिरक्षण प्रभाव
- (2) 5d इलेक्ट्रानों का दुर्बल परिरक्षण प्रभाव
- (3) 5f इलेक्ट्रानों का 4f इलेक्ट्रानों की तुलना में अधिक दुर्बल परिरक्षण प्रभाव
- (4) 4f इलेक्ट्रानों का 5f इलेक्ट्रानों की तुलना में अधिक दुर्बल परिरक्षण प्रभाव

Options :

- 212807126605. 1
- 212807126606. 2
- 212807126607. 3
- 212807126608. 4

Question Number : 273 Question Id : 21280731653 Question Type : MCQ Option Shuffling : No Is Question Mandatory : No Calculator : None
Response Time : N.A Think Time : N.A Minimum Instruction Time : 0

Correct Marks : 5 Wrong Marks : 1

Question Key Details :

Key	Value
Comprehension	MCQ

Glycoside linkage is the ether bond present in between two :

- (1) Amino acids
- (2) Nucleic acids
- (3) Vitamins
- (4) Monosaccharides

Options :

- 212807126609. 1
- 212807126610. 2
- 212807126611. 3
- 212807126612. 4

Question Number : 273 Question Id : 21280731653 Question Type : MCQ Option Shuffling : No Is Question Mandatory : No Calculator : None
Response Time : N.A Think Time : N.A Minimum Instruction Time : 0

Correct Marks : 5 Wrong Marks : 1

Question Key Details :

Key	Value
Comprehension	MCQ

निम्न के बीच ग्लाइकोसाइडी बन्धन इत्तर बन्ध होता है :

- (1) ऐमीनो अम्ल
- (2) न्यूक्लिक अम्ल
- (3) विटामिन
- (4) मोनोसैकेराइड

Options :

- 212807126609. 1
- 212807126610. 2
- 212807126611. 3
- 212807126612. 4

Question Number : 274 Question Id : 21280731654 Question Type : MCQ Option Shuffling : No Is Question Mandatory : No Calculator : None
Response Time : N.A Think Time : N.A Minimum Instruction Time : 0

Correct Marks : 5 Wrong Marks : 1

Question Key Details :

Key	Value
Comprehension	MCQ

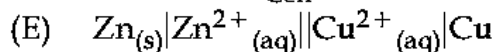
Which of the following relationships are not correct ?

(A) $E_{\text{cell}}^{\circ} = \frac{0.0591}{nF} \log K_c$

(B) $\lambda_m^{\circ} \text{Na}_2\text{SO}_4 = \lambda_m^{\circ}(\text{Na}^+) + \lambda_m^{\circ}(\text{SO}_4^{2-})$

(C) Cell constant = $\frac{\text{Conductivity}}{\text{Conductance}}$

(D) $\Delta G^{\circ} = nF E_{\text{Cell}}^{\circ}$



Choose the correct answer from the options given below :

(1) (B), (C), (D) only

(2) (A), (B), (D) only

(3) (B), (C), (D), (E) only

(4) (A), (C), (E) only

Options :

212807126613. 1

212807126614. 2

212807126615. 3

212807126616. 4

Question Number : 274 Question Id : 21280731654 Question Type : MCQ Option Shuffling : No Is Question Mandatory : No Calculator : None

Response Time : N.A Think Time : N.A Minimum Instruction Time : 0

Correct Marks : 5 Wrong Marks : 1

Question Key Details :

Key	Value
Comprehension	MCQ

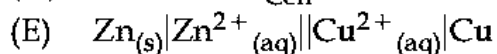
निम्न में कौन-सा संबंध सही नहीं है ?

(A) $E_{\text{cell}}^{\circ} = \frac{0.0591}{nF} \log K_c$

(B) $\lambda_m^{\circ} \text{Na}_2\text{SO}_4 = \lambda_m^{\circ}(\text{Na}^+) + \lambda_m^{\circ}(\text{SO}_4^{2-})$

(C) सेल स्थिरांक = $\frac{\text{चालकता}}{\text{चालकत्व}}$

(D) $\Delta G^{\circ} = nF E_{\text{Cell}}^{\circ}$



नीचे दिए गए विकल्पों में सही उत्तर का चयन कीजिए :

(1) केवल (B), (C), (D)

(2) केवल (A), (B), (D)

(3) केवल (B), (C), (D), (E)

(4) केवल (A), (C), (E)

Options :

212807126613. 1

212807126614. 2

212807126615. 3

212807126616. 4

Question Number : 275 Question Id : 21280731655 Question Type : MCQ Option Shuffling : No Is Question Mandatory : No Calculator : None
Response Time : N.A Think Time : N.A Minimum Instruction Time : 0

Correct Marks : 5 Wrong Marks : 1

Question Key Details :

Key	Value
Comprehension	MCQ

The rate constants of a reaction at 200 K and 300 K are 0.02 s^{-1} and 0.04 s^{-1} . E_a for this reaction will be :

- (1) 2.9 kJ/mol
- (2) 3.4 kJ/mol
- (3) 34.5 kJ/mol
- (4) 344 kJ/mol

Options :

212807126617. 1

212807126618. 2

212807126619. 3

212807126620. 4

Question Number : 275 Question Id : 21280731655 Question Type : MCQ Option Shuffling : No Is Question Mandatory : No Calculator : None
Response Time : N.A Think Time : N.A Minimum Instruction Time : 0

Correct Marks : 5 Wrong Marks : 1

Question Key Details :

Key	Value
Comprehension	MCQ

अभिक्रिया का वेग स्थिरांक 200 K तथा 300 K पर क्रमशः 0.02 s^{-1} तथा 0.04 s^{-1} है। इस अभिक्रिया के लिए E_a होगा :

- (1) 2.9 kJ/mol
- (2) 3.4 kJ/mol
- (3) 34.5 kJ/mol
- (4) 344 kJ/mol

Options :

212807126617. 1

212807126618. 2

212807126619. 3

212807126620. 4

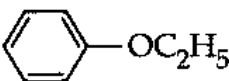
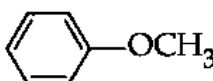
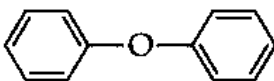
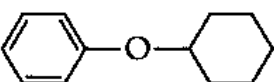
Question Number : 276 Question Id : 21280731656 Question Type : MCQ Option Shuffling : No Is Question Mandatory : No Calculator : None
Response Time : N.A Think Time : N.A Minimum Instruction Time : 0

Correct Marks : 5 Wrong Marks : 1

Question Key Details :

Key	Value
Comprehension	MCQ

Among the following ethers, which cannot react with HI ?

- (1) 
- (2) 
- (3) 
- (4) 

Options :

212807126621. 1

212807126622. 2
212807126623. 3
212807126624. 4

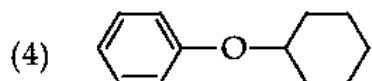
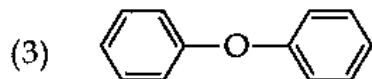
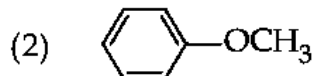
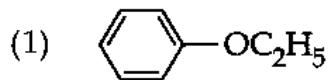
Question Number : 276 Question Id : 21280731656 Question Type : MCQ Option Shuffling : No Is Question Mandatory : No Calculator : None
Response Time : N.A Think Time : N.A Minimum Instruction Time : 0

Correct Marks : 5 Wrong Marks : 1

Question Key Details :

Key	Value
Comprehension	MCQ

निम्नलिखित ईथरों में से कौनसा HI के साथ अभिक्रिया नहीं कर सकता है ?



Options :

212807126621. 1
212807126622. 2
212807126623. 3
212807126624. 4

Question Number : 277 Question Id : 21280731657 Question Type : MCQ Option Shuffling : No Is Question Mandatory : No Calculator : None
Response Time : N.A Think Time : N.A Minimum Instruction Time : 0

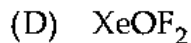
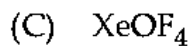
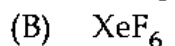
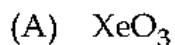
Correct Marks : 5 Wrong Marks : 1

Question Key Details :

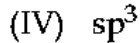
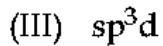
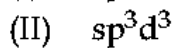
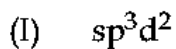
Key	Value
Comprehension	MCQ

Match List - I with List - II.

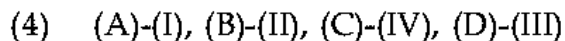
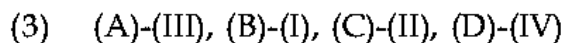
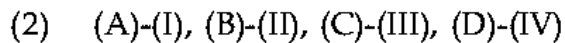
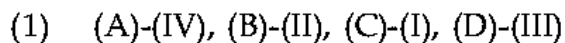
List - I



List - II



Choose the correct answer from the options given below :



Options :

212807126625. 1
212807126626. 2
212807126627. 3
212807126628. 4

Question Number : 277 Question Id : 21280731657 Question Type : MCQ Option Shuffling : No Is Question Mandatory : No Calculator : None
Response Time : N.A Think Time : N.A Minimum Instruction Time : 0

Correct Marks : 5 Wrong Marks : 1

Question Key Details :

Key	Value
Comprehension	MCQ

सूची - I को सूची - II के साथ मिलान कीजिए।

सूची - I	सूची - II
(A) XeO ₃	(I) sp ³ d ²
(B) XeF ₆	(II) sp ³ d ³
(C) XeOF ₄	(III) sp ³ d
(D) XeOF ₂	(IV) sp ³

नीचे दिए गए विकल्पों में सही उत्तर का चयन कीजिए :

- (1) (A)-(IV), (B)-(II), (C)-(I), (D)-(III)
- (2) (A)-(I), (B)-(II), (C)-(III), (D)-(IV)
- (3) (A)-(III), (B)-(I), (C)-(II), (D)-(IV)
- (4) (A)-(I), (B)-(II), (C)-(IV), (D)-(III)

Options :

212807126625. 1
212807126626. 2
212807126627. 3
212807126628. 4

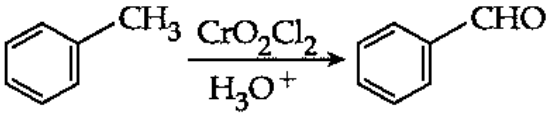
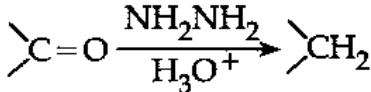
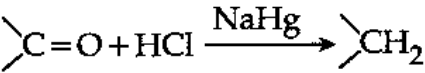
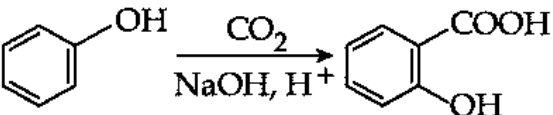
Question Number : 278 Question Id : 21280731658 Question Type : MCQ Option Shuffling : No Is Question Mandatory : No Calculator : None Response Time : N.A Think Time : N.A Minimum Instruction Time : 0

Correct Marks : 5 Wrong Marks : 1

Question Key Details :

Key	Value
Comprehension	MCQ

Match List - I with List - II.

List - I	List - II
(A) Clemens reduction	(I) 
(B) Kolbe's reaction	(II) 
(C) Etard reaction	(III) 
(D) Wolf Kishner reduction	(IV) 

Choose the correct answer from the options given below :

- (1) (A)-(II), (B)-(I), (C)-(III), (D)-(IV)
- (2) (A)-(I), (B)-(II), (C)-(III), (D)-(IV)
- (3) (A)-(III), (B)-(IV), (C)-(II), (D)-(I)
- (4) (A)-(III), (B)-(IV), (C)-(I), (D)-(II)

Options :

212807126629. 1

212807126630. 2
212807126631. 3
212807126632. 4

Question Number : 278 Question Id : 21280731658 Question Type : MCQ Option Shuffling : No Is Question Mandatory : No Calculator : None
Response Time : N.A Think Time : N.A Minimum Instruction Time : 0

Correct Marks : 5 Wrong Marks : 1

Question Key Details :

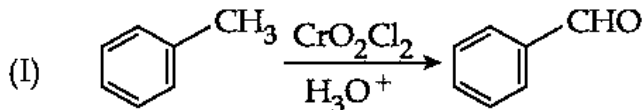
Key	Value
Comprehension	MCQ

सूची - I को सूची - II के साथ मिलान कीजिए।

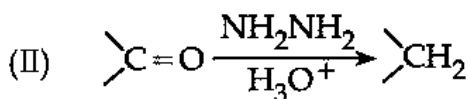
सूची - I

सूची - II

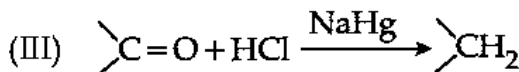
(A) क्लीमेन्सन उपचयन



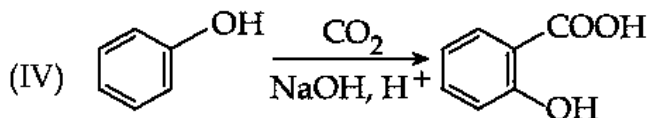
(B) कोल्बे अभिक्रिया



(C) ईटार्ड अभिक्रिया



(D) वॉल्फ-किशनर अपचयन



नीचे दिए गए विकल्पों में सही उत्तर का चयन कीजिए :

- (1) (A)-(II), (B)-(I), (C)-(III), (D)-(IV)
- (2) (A)-(I), (B)-(II), (C)-(III), (D)-(IV)
- (3) (A)-(III), (B)-(IV), (C)-(II), (D)-(I)
- (4) (A)-(III), (B)-(IV), (C)-(I), (D)-(II)

Options :

212807126629. 1
212807126630. 2
212807126631. 3
212807126632. 4

Question Number : 279 Question Id : 21280731659 Question Type : MCQ Option Shuffling : No Is Question Mandatory : No Calculator : None
Response Time : N.A Think Time : N.A Minimum Instruction Time : 0

Correct Marks : 5 Wrong Marks : 1

Question Key Details :

Key	Value
Comprehension	MCQ

Unit of rate constant for zero order reaction is :

- (1) s^{-1}
- (2) $\text{mol}^{-1} \text{L s}^{-1}$
- (3) $\text{mol L}^{-1}, s^{-1}$
- (4) $\text{mol}^{-1}, \text{L}^{-1} \text{s}$

Options :

212807126633. 1
212807126634. 2
212807126635. 3

Question Number : 279 Question Id : 21280731659 Question Type : MCQ Option Shuffling : No Is Question Mandatory : No Calculator : None
Response Time : N.A Think Time : N.A Minimum Instruction Time : 0

Correct Marks : 5 Wrong Marks : 1

Question Key Details :

Key	Value
Comprehension	MCQ

शून्य कोटि अभिक्रिया के लिए वेग स्थिरांक की ईकाई है :

- (1) s^{-1}
- (2) $\text{mol}^{-1} \text{L s}^{-1}$
- (3) $\text{mol L}^{-1}, \text{s}^{-1}$
- (4) $\text{mol}^{-1}, \text{L}^{-1} \text{s}$

Options :

212807126633. 1
212807126634. 2
212807126635. 3
212807126636. 4

Question Number : 280 Question Id : 21280731660 Question Type : MCQ Option Shuffling : No Is Question Mandatory : No Calculator : None
Response Time : N.A Think Time : N.A Minimum Instruction Time : 0

Correct Marks : 5 Wrong Marks : 1

Question Key Details :

Key	Value
Comprehension	MCQ

Match List - I with List - II.

List - I

- (A) D
- (B) C
- (C) B_6
- (D) K

List - II

- (I) Loss of blood clotting
- (II) Rickets
- (III) Scurvy
- (IV) Convulsions

Choose the correct answer from the options given below :

- (1) (A)-(I), (B)-(II), (C)-(III), (D)-(IV)
- (2) (A)-(III), (B)-(II), (C)-(IV), (D)-(I)
- (3) (A)-(II), (B)-(III), (C)-(IV), (D)-(I)
- (4) (A)-(II), (B)-(III), (C)-(I), (D)-(IV)

Options :

212807126637. 1
212807126638. 2
212807126639. 3
212807126640. 4

Question Number : 280 Question Id : 21280731660 Question Type : MCQ Option Shuffling : No Is Question Mandatory : No Calculator : None
Response Time : N.A Think Time : N.A Minimum Instruction Time : 0

Correct Marks : 5 Wrong Marks : 1

Question Key Details :

Key	Value
Comprehension	MCQ

सूची - I को सूची - II के साथ मिलान कीजिए।

सूची - I

सूची - II

- | | |
|--------------------|-------------------------------------|
| (A) D | (I) खून के बहाव को रोकना थक्का बनना |
| (B) C | (II) रिकेट्स |
| (C) B ₆ | (III) स्कर्वी |
| (D) K | (IV) मरोड़ पड़ना |

नीचे दिये गये विकल्पों में से सही उत्तर का चयन कीजिए :

- (1) (A)-(I), (B)-(II), (C)-(III), (D)-(IV)
- (2) (A)-(III), (B)-(II), (C)-(IV), (D)-(I)
- (3) (A)-(II), (B)-(III), (C)-(IV), (D)-(I)
- (4) (A)-(II), (B)-(III), (C)-(I), (D)-(IV)

Options :

212807126637. 1
212807126638. 2
212807126639. 3
212807126640. 4

Question Number : 281 Question Id : 21280731661 Question Type : MCQ Option Shuffling : No Is Question Mandatory : No Calculator : None
Response Time : N.A Think Time : N.A Minimum Instruction Time : 0

Correct Marks : 5 Wrong Marks : 1

Question Key Details :

Key	Value
Comprehension	MCQ

Which of the following statements are correct ?

- (A) $\text{AsH}_3 > \text{PH}_3 > \text{NH}_3$ (decreasing order of basic strength)
- (B) $\text{H}_2\text{O} > \text{NH}_3 > \text{PH}_3$ (decreasing order of boiling point)
- (C) $\text{NO} > \text{NO}_2 > \text{N}_2\text{O}_3$ (decreasing oxidation state of nitrogen)
- (D) $\text{H}_4\text{P}_2\text{O}_6 > \text{H}_4\text{P}_2\text{O}_5 > \text{H}_3\text{PO}_4$ (decreasing oxidation state of phosphorus)
- (E) $\text{H}_2\text{O} > \text{H}_2\text{S} > \text{H}_2\text{Se}$ (decreasing thermal stability)

Choose the correct answer from the options given below :

- (1) (A) and (B) only
- (2) (C) and (D) only
- (3) (B) and (E) only
- (4) (D) and (E) only

Options :

212807126641. 1
212807126642. 2
212807126643. 3
212807126644. 4

Question Number : 281 Question Id : 21280731661 Question Type : MCQ Option Shuffling : No Is Question Mandatory : No Calculator : None
Response Time : N.A Think Time : N.A Minimum Instruction Time : 0

Correct Marks : 5 Wrong Marks : 1

Question Key Details :

Key	Value
Comprehension	MCQ

निम्न में कौन-सा कथन सही है ?

- (A) $\text{AsH}_3 > \text{PH}_3 > \text{NH}_3$ (क्षार प्रबलता का घटता क्रम)
 (B) $\text{H}_2\text{O} > \text{NH}_3 > \text{PH}_3$ (क्वथनांक का घटता क्रम)
 (C) $\text{NO} > \text{NO}_2 > \text{N}_2\text{O}_3$ (नाइट्रोजन की घटती ऑक्सीकरण अवस्था)
 (D) $\text{H}_4\text{P}_2\text{O}_6 > \text{H}_4\text{P}_2\text{O}_5 > \text{H}_3\text{PO}_4$ (फॉस्फोरस की घटती ऑक्सीकरण अवस्था)
 (E) $\text{H}_2\text{O} > \text{H}_2\text{S} > \text{H}_2\text{Se}$ (घटता तापीय स्थायित्व)

नीचे दिये गये विकल्पों में से सही उत्तर का चयन कीजिए :

- (1) केवल (A) और (B)
 (2) केवल (C) और (D)
 (3) केवल (B) और (E)
 (4) केवल (D) और (E)

Options :

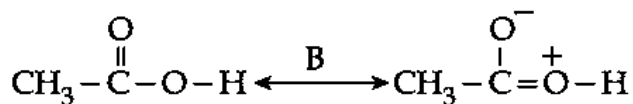
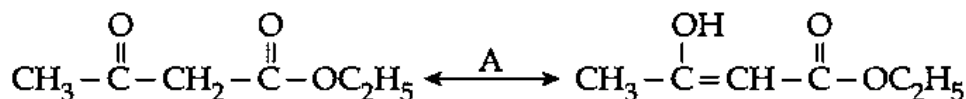
212807126641. 1
 212807126642. 2
 212807126643. 3
 212807126644. 4

Question Number : 282 Question Id : 21280731662 Question Type : MCQ Option Shuffling : No Is Question Mandatory : No Calculator : None
 Response Time : N.A Think Time : N.A Minimum Instruction Time : 0

Correct Marks : 5 Wrong Marks : 1

Question Key Details :

Key	Value
Comprehension	MCQ



A and B represent :

- (1) Tautomerism and Resonance
 (2) Metamerism and Resonance
 (3) Resonance and Tautomerism
 (4) Metamerism and Tautomerism

Options :

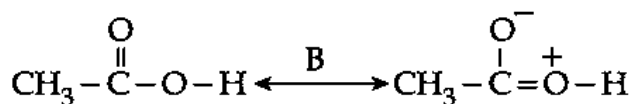
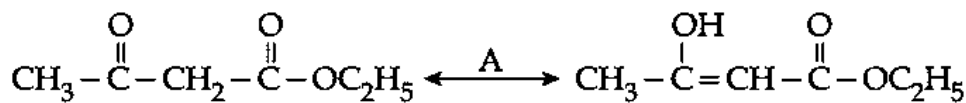
212807126645. 1
 212807126646. 2
 212807126647. 3
 212807126648. 4

Question Number : 282 Question Id : 21280731662 Question Type : MCQ Option Shuffling : No Is Question Mandatory : No Calculator : None
 Response Time : N.A Think Time : N.A Minimum Instruction Time : 0

Correct Marks : 5 Wrong Marks : 1

Question Key Details :

Key	Value
Comprehension	MCQ



A तथा B प्रदर्शित करता है :

- (1) चलाव्यवता तथा अनुनाद
- (2) मध्याव्यवता तथा अनुनाद
- (3) अनुनाद तथा चलाव्यवता
- (4) मध्याव्यवता तथा चलाव्यवता

Options :

212807126645. 1
212807126646. 2
212807126647. 3
212807126648. 4

Question Number : 283 Question Id : 21280731663 Question Type : MCQ Option Shuffling : No Is Question Mandatory : No Calculator : None
Response Time : N.A Think Time : N.A Minimum Instruction Time : 0

Correct Marks : 5 Wrong Marks : 1

Question Key Details :

Key	Value
Comprehension	MCQ

Cr^{2+} is stronger reducing agent than Fe^{2+} because :

- (1) it has exactly full filled configuration
- (2) d^3 configuration of Cr^{3+} is more stable than d^5 configuration of Fe^{3+} in aqueous solution
- (3) oxidises easily to form Cr^{4+}
- (4) Fe^{2+} is quite stable and does not oxidise

Options :

212807126649. 1
212807126650. 2
212807126651. 3
212807126652. 4

Question Number : 283 Question Id : 21280731663 Question Type : MCQ Option Shuffling : No Is Question Mandatory : No Calculator : None
Response Time : N.A Think Time : N.A Minimum Instruction Time : 0

Correct Marks : 5 Wrong Marks : 1

Question Key Details :

Key	Value
Comprehension	MCQ

Cr^{2+} , Fe^{2+} की तुलना में प्रबल अपचायक है क्योंकि :

- (1) इसका विन्यास पूर्ण भरित है।
- (2) जल में Cr^{3+} d^3 विन्यास में Fe^{3+} की d^5 विन्यास से अधिक स्थाई है।
- (3) आसानी से Cr^{4+} में ऑक्सीकृत हो जाता है।
- (4) Fe^{2+} स्थाई है तथा ऑक्सीकृत नहीं होता।

Options :

212807126649. 1
212807126650. 2
212807126651. 3

Question Number : 284 Question Id : 21280731664 Question Type : MCQ Option Shuffling : No Is Question Mandatory : No Calculator : None
 Response Time : N.A Think Time : N.A Minimum Instruction Time : 0

Correct Marks : 5 Wrong Marks : 1

Question Key Details :

Key	Value
Comprehension	MCQ

Given :

$$E^\circ_{K^+/K} = -2.93 \text{ V},$$

$$E^\circ_{Ag^+/Ag} = 0.80 \text{ V},$$

$$E^\circ_{Hg^{2+}/Hg} = 0.79 \text{ V},$$

$$E^\circ_{Mg^{2+}/Mg} = -2.37 \text{ V},$$

$$E^\circ_{Cr^{3+}/Cr} = -0.74 \text{ V},$$

Choose the correct order :

- (A) $Ag < Hg < Cr < Mg < K$ (increasing reducing power)
- (B) $Ag < Hg < Cr < Mg < K$ (decreasing oxidising power)
- (C) $Ag > Hg > Cr > Mg > K$ (decreasing oxidising power)
- (D) $Hg > Cr > Ag > K > Mg$ (increasing reactivity)
- (E) $K > Mg > Cr > Hg > Ag$ (decreasing reactivity order)

Choose the correct answer from the options given below :

- (1) (A), (C) and (E) only
- (2) (B), (C) and (E) only
- (3) (C), (D) and (E) only
- (4) (A) and (B) only

Options :

212807126653. 1

212807126654. 2

212807126655. 3

212807126656. 4

Question Number : 284 Question Id : 21280731664 Question Type : MCQ Option Shuffling : No Is Question Mandatory : No Calculator : None
 Response Time : N.A Think Time : N.A Minimum Instruction Time : 0

Correct Marks : 5 Wrong Marks : 1

Question Key Details :

Key	Value
Comprehension	MCQ

दिया गया

$$E^\circ_{K^+/K} = -2.93 \text{ V},$$

$$E^\circ_{Ag^+/Ag} = 0.80 \text{ V},$$

$$E^\circ_{Hg^{2+}/Hg} = 0.79 \text{ V},$$

$$E^\circ_{Mg^{2+}/Mg} = -2.37 \text{ V},$$

$$E^\circ_{Cr^{3+}/Cr} = -0.74 \text{ V},$$

सही क्रम चुनिए :

- (A) $Ag < Hg < Cr < Mg < K$ (बढ़ती अपचायक क्षमता)
(B) $Ag < Hg < Cr < Mg < K$ (घटती ऑक्सीकारक क्षमता)
(C) $Ag > Hg > Cr > Mg > K$ (घटती ऑक्सीकारक क्षमता)
(D) $Hg > Cr > Ag > K > Mg$ (घटती क्रियाशीलता)
(E) $K > Mg > Cr > Hg > Ag$ (घटती क्रियाशीलता क्रम)

नीचे दिये गये विकल्पों में से सही उत्तर का चयन कीजिए :

- (1) केवल (A), (C) और (E)
(2) केवल (B), (C) और (E)
(3) केवल (C), (D) और (E)
(4) केवल (A) और (B)

Options :

212807126653. 1

212807126654. 2

212807126655. 3

212807126656. 4

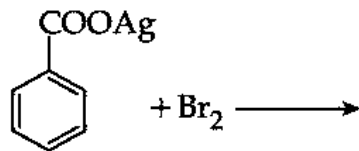
Question Number : 285 Question Id : 21280731665 Question Type : MCQ Option Shuffling : No Is Question Mandatory : No Calculator : None
Response Time : N.A Think Time : N.A Minimum Instruction Time : 0

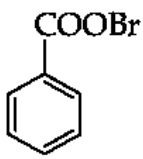
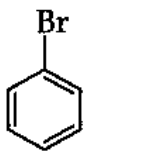
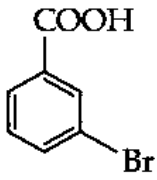
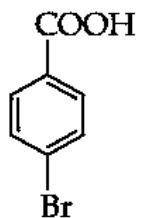
Correct Marks : 5 Wrong Marks : 1

Question Key Details :

Key	Value
Comprehension	MCQ

Predict the product for the reaction :



- (1)  O=C(OBr)c1ccccc1
- (2)  Brc1ccccc1
- (3)  O=C(O)c1cccc(Br)c1
- (4)  O=C(O)c1ccc(Br)cc1

Options :

212807126657. 1

212807126658. 2

212807126659. 3

212807126660. 4

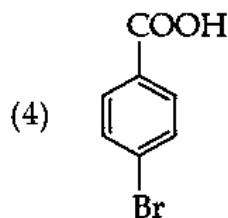
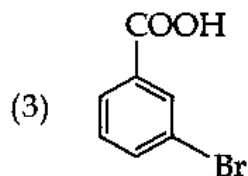
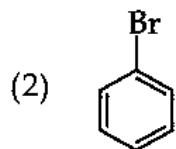
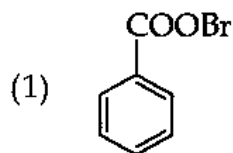
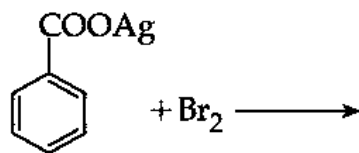
Question Number : 285 Question Id : 21280731665 Question Type : MCQ Option Shuffling : No Is Question Mandatory : No Calculator : None Response Time : N.A Think Time : N.A Minimum Instruction Time : 0

Correct Marks : 5 Wrong Marks : 1

Question Key Details :

Key	Value
Comprehension	MCQ

अभिक्रिया के लिए उत्पाद का परिकलन कीजिए :



Options :

212807126657. 1

212807126658. 2

212807126659. 3

212807126660. 4

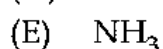
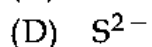

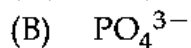
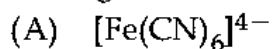
Question Number : 286 Question Id : 21280731666 Question Type : MCQ Option Shuffling : No Is Question Mandatory : No Calculator : None Response Time : N.A Think Time : N.A Minimum Instruction Time : 0

Correct Marks : 5 Wrong Marks : 1

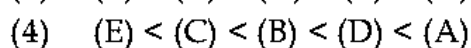
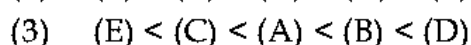
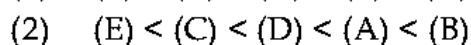
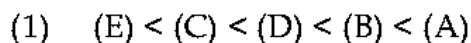
Question Key Details :

Key	Value
Comprehension	MCQ

Arrange the following according to their coagulating power towards a positively charged colloid :



Choose the correct answer from the options given below :



Options :

212807126661. 1

212807126662. 2
212807126663. 3
212807126664. 4

Question Number : 286 Question Id : 21280731666 Question Type : MCQ Option Shuffling : No Is Question Mandatory : No Calculator : None
Response Time : N.A Think Time : N.A Minimum Instruction Time : 0

Correct Marks : 5 Wrong Marks : 1

Question Key Details :

Key	Value
Comprehension	MCQ

निम्नलिखित को उनकी स्कंदन क्षमता को धनात्मक आवेशित कोलॉइड के प्रति, स्कंदन क्षमता के आधार पर व्यवस्थित कीजिए :

- (A) $[\text{Fe}(\text{CN})_6]^{4-}$
- (B) PO_4^{3-}
- (C) Cl^-
- (D) S^{2-}
- (E) NH_3

नीचे दिए गए विकल्पों में सही उत्तर का चयन कीजिए :

- (1) (E) < (C) < (D) < (B) < (A)
- (2) (E) < (C) < (D) < (A) < (B)
- (3) (E) < (C) < (A) < (B) < (D)
- (4) (E) < (C) < (B) < (D) < (A)

Options :

212807126661. 1
212807126662. 2
212807126663. 3
212807126664. 4

Question Number : 287 Question Id : 21280731667 Question Type : MCQ Option Shuffling : No Is Question Mandatory : No Calculator : None
Response Time : N.A Think Time : N.A Minimum Instruction Time : 0

Correct Marks : 5 Wrong Marks : 1

Question Key Details :

Key	Value
Comprehension	MCQ

H-bond does not exist in :

- (1) tertiary structure of proteins
- (2) 2-helix structure of proteins
- (3) β -pleated structure of proteins
- (4) Primary structure of proteins

Options :

212807126665. 1
212807126666. 2
212807126667. 3
212807126668. 4

Question Number : 287 Question Id : 21280731667 Question Type : MCQ Option Shuffling : No Is Question Mandatory : No Calculator : None
Response Time : N.A Think Time : N.A Minimum Instruction Time : 0

Correct Marks : 5 Wrong Marks : 1

Question Key Details :

Key	Value
Comprehension	MCQ

हाइड्रोजन बन्ध अस्तित्व में नहीं है :

- (1) प्रोटीन की तृतीयक संरचना में
- (2) प्रोटीन की 2-हेलिक्स संरचना में
- (3) प्रोटीन की β -प्लीटेड संरचना में
- (4) प्रोटीन की प्राथमिक संरचना में

Options :

212807126665. 1
212807126666. 2
212807126667. 3
212807126668. 4

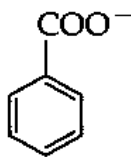
Question Number : 288 Question Id : 21280731668 Question Type : MCQ Option Shuffling : No Is Question Mandatory : No Calculator : None
Response Time : N.A Think Time : N.A Minimum Instruction Time : 0

Correct Marks : 5 Wrong Marks : 1

Question Key Details :

Key	Value
Comprehension	MCQ

Arrange the following Nucleophiles in the decreasing order of their attacking strength :

- (A) 
- (B) $\text{CH}_3\text{CH}_2\text{CH}_2\text{COO}^-$
- (C) $\text{CH}_3\text{CH}_2\text{CH}_2\text{CH}_2\text{S}^-$
- (D) $\text{CH}_3\text{CH}_2\text{CH}_2\text{CH}_2\text{O}^-$

Choose the correct answer from the options given below :

- (1) (B) > (D) > (A) > (C)
- (2) (C) > (D) > (B) > (A)
- (3) (C) > (B) > (D) > (A)
- (4) (B) > (A) > (C) > (D)

Options :

212807126669. 1
212807126670. 2
212807126671. 3
212807126672. 4

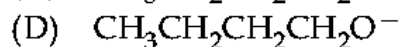
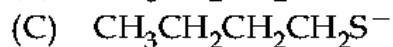
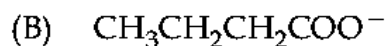
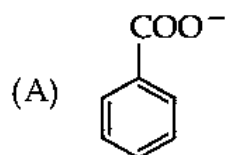
Question Number : 288 Question Id : 21280731668 Question Type : MCQ Option Shuffling : No Is Question Mandatory : No Calculator : None
Response Time : N.A Think Time : N.A Minimum Instruction Time : 0

Correct Marks : 5 Wrong Marks : 1

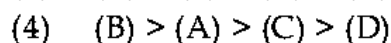
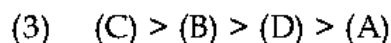
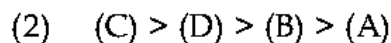
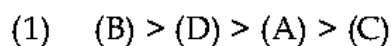
Question Key Details :

Key	Value
Comprehension	MCQ

निम्नलिखित नाभिकरागी को उनके आक्रमण प्रबलता के घटते क्रम में व्यवस्थित कीजिए :



नीचे दिए गए विकल्पों में सही उत्तर का चयन कीजिए :



Options :

212807126669. 1

212807126670. 2

212807126671. 3

212807126672. 4

Question Number : 289 Question Id : 21280731669 Question Type : MCQ Option Shuffling : No Is Question Mandatory : No Calculator : None Response Time : N.A Think Time : N.A Minimum Instruction Time : 0

Correct Marks : 5 Wrong Marks : 1

Question Key Details :

Key	Value
Comprehension	MCQ

Match List - I with List - II.

List - I

List - II

(A) Nylon

(I) Terylene

(B) Polyester

(II) Caprolactam

(C) Bakelite

(III) Isoprene

(D) Rubber

(IV) Novolac

Choose the correct answer from the options given below :

(1) (A)-(IV), (B)-(III), (C)-(II), (D)-(I)

(2) (A)-(III), (B)-(I), (C)-(IV), (D)-(II)

(3) (A)-(II), (B)-(I), (C)-(IV), (D)-(III)

(4) (A)-(II), (B)-(III), (C)-(I), (D)-(IV)

Options :

212807126673. 1

212807126674. 2

212807126675. 3

212807126676. 4

Question Number : 289 Question Id : 21280731669 Question Type : MCQ Option Shuffling : No Is Question Mandatory : No Calculator : None Response Time : N.A Think Time : N.A Minimum Instruction Time : 0

Correct Marks : 5 Wrong Marks : 1

Question Key Details :

Key	Value
Comprehension	MCQ

सूची - I का सूची - II के साथ मिलान कीजिए।

सूची - I

सूची - II

- | | |
|---------------|-------------------|
| (A) नाइलॉन | (I) टेरिलीन |
| (B) पॉलिएस्टर | (II) कैप्रोलैक्टम |
| (C) बैकेलाइट | (III) आइसोप्रिन |
| (D) रबर | (IV) नोवोलेक |

नीचे दिए गए विकल्पों में सही उत्तर का चयन कीजिए :

- (1) (A)-(IV), (B)-(III), (C)-(II), (D)-(I)
- (2) (A)-(III), (B)-(I), (C)-(IV), (D)-(II)
- (3) (A)-(II), (B)-(I), (C)-(IV), (D)-(III)
- (4) (A)-(II), (B)-(III), (C)-(I), (D)-(IV)

Options :

212807126673. 1
212807126674. 2
212807126675. 3
212807126676. 4

Question Number : 290 Question Id : 21280731670 Question Type : MCQ Option Shuffling : No Is Question Mandatory : No Calculator : None
Response Time : N.A Think Time : N.A Minimum Instruction Time : 0

Correct Marks : 5 Wrong Marks : 1

Question Key Details :

Key	Value
Comprehension	MCQ

Match List - I with List - II.

List - I

List - II

- | | |
|------------------------|---------------------------|
| (A) Antifertility drug | (I) 1% solution of phenol |
| (B) Tranquilizers | (II) Novestrol |
| (C) Analgesics | (III) Noradrenalin |
| (D) Disinfectant | (IV) Aspirin |

Choose the correct answer from the options given below :

- (1) (A)-(II), (B)-(III), (C)-(IV), (D)-(I)
- (2) (A)-(I), (B)-(II), (C)-(III), (D)-(IV)
- (3) (A)-(II), (B)-(III), (C)-(IV), (D)-(I)
- (4) (A)-(III), (B)-(IV), (C)-(I), (D)-(II)

Options :

212807126677. 1
212807126678. 2
212807126679. 3
212807126680. 4

Question Number : 290 Question Id : 21280731670 Question Type : MCQ Option Shuffling : No Is Question Mandatory : No Calculator : None
Response Time : N.A Think Time : N.A Minimum Instruction Time : 0

Correct Marks : 5 Wrong Marks : 1

Question Key Details :

Key	Value
Comprehension	MCQ

सूची - I को सूची - II के साथ मिलान कीजिए।

सूची - I

सूची - II

- | | |
|-------------------------|-----------------------|
| (A) प्रतिजनन क्षमता औषध | (I) फीनॉल का 1% विलयन |
| (B) प्रशांतक | (II) नोवएस्ट्रॉल |
| (C) पीड़ाहारी | (III) नॉरएड्रीनेलिन |
| (D) विसंक्रामी | (IV) ऐस्पिरिन |

नीचे दिए गए विकल्पों में सही उत्तर का चयन कीजिए :

- (1) (A)-(II), (B)-(III), (C)-(IV), (D)-(I)
- (2) (A)-(I), (B)-(II), (C)-(III), (D)-(IV)
- (3) (A)-(II), (B)-(III), (C)-(IV), (D)-(I)
- (4) (A)-(III), (B)-(IV), (C)-(I), (D)-(II)

Options :

212807126677. 1
212807126678. 2
212807126679. 3
212807126680. 4

Sub-Section Number :

2

Sub-Section Id :

2128072497

Question Shuffling Allowed :

No

Is Section Default? :

null

Question Number : 291 Question Id : 21280731671 Question Type : MCQ Option Shuffling : No Is Question Mandatory : No Calculator : None
Response Time : N.A Think Time : N.A Minimum Instruction Time : 0

Correct Marks : 5 Wrong Marks : 1

Question Key Details :

Key	Value
Comprehension	Comp1

The properties which depend on the number of solute particles irrespective of their nature relative to the total numbers of particles in the solution are called colligative properties. These are relative lowering of vapour pressure, of the solvent, depression of freezing point of the solvent, elevation of boiling point of the solvent and osmotic pressure of the solution. All of their particles help in calculating the observed molar mass of the solute. Determination of osmotic pressure is considered best for the determination of molecular mass of the solute.

The binary liquid mixtures which show negative deviation from Raoult's law are :

- (A) n-hexane and n-heptone
- (B) phenol and acetone
- (C) Ethanol and acetone
- (D) Chloroform and acetone
- (E) Benzene and toluene

Choose the correct answer from the options given below :

- (1) (A) and (B) only
- (2) (C) and (E) only
- (3) (B) and (D) only
- (4) (A) and (E) only

Options :

212807126681. 1

212807126682. 2
212807126683. 3
212807126684. 4

Question Number : 291 Question Id : 21280731671 Question Type : MCQ Option Shuffling : No Is Question Mandatory : No Calculator : None
Response Time : N.A Think Time : N.A Minimum Instruction Time : 0

Correct Marks : 5 Wrong Marks : 1

Question Key Details :

Key	Value
Comprehension	Comp1

सभी गुण, जो विलयन में उपस्थित कुल कणों की संख्या तथा विलेय कणों की संख्या के अनुपात पर निर्भर करते हैं न कि विलेय के कणों की प्रकृति पर। ऐसे गुण अणुसंख्य गुणधर्म कहलाते हैं ये विलायक के वाष्प दाब के आपेक्षिक अवनमन, विलायक के हिमांक का अवनमन, विलायक के क्वथनांक का उन्नयन, विलयन का परासरण दाब आदि से संबंधित हैं। उनके सभी कण विलेय के प्रेक्षित मोलर द्रव्यमान की गणना करने में सहायता करते हैं। परासरण दाब का निर्धारण विलेय के आणविक द्रव्यमान के निर्धारण के लिए श्रेष्ठ माना जाता है।

द्विअंगी मिश्रण जो राउल्ट नियम से ऋणात्मक विचलन प्रदर्शित करते हैं :

- (A) n-हेक्सेन एवं n-हेप्टेन
- (B) फीनॉल एवं ऐसीटोन
- (C) एथेनॉल एवं ऐसीटोन
- (D) क्लोरोफॉर्म एवं ऐसीटोन
- (E) बेन्ज़िन एवं टॉलुईन

नीचे दिये गये विकल्पों में से सही उत्तर का चयन कीजिए :

- (1) केवल (A) एवं (B)
- (2) केवल (C) एवं (E)
- (3) केवल (B) एवं (D)
- (4) केवल (A) एवं (E)

Options :

212807126681. 1
212807126682. 2
212807126683. 3
212807126684. 4

Question Number : 292 Question Id : 21280731672 Question Type : MCQ Option Shuffling : No Is Question Mandatory : No Calculator : None
Response Time : N.A Think Time : N.A Minimum Instruction Time : 0

Correct Marks : 5 Wrong Marks : 1

Question Key Details :

Key	Value
Comprehension	Comp1

The properties which depend on the number of solute particles irrespective of their nature relative to the total numbers of particles in the solution are called colligative properties. These are relative lowering of vapour pressure, of the solvent, depression of freezing point of the solvent, elevation of boiling point of the solvent and osmotic pressure of the solution. All of their particles help in calculating the observed molar mass of the solute. Determination of osmotic pressure is considered best for the determination of molecular mass of the solute.

A solution of 12.5 g of an unknown solute in 170 g. Water gave a boiling point elevation of 0.63 K. k_b for water is $0.53 \text{ K kg mol}^{-1}$. The molar mass of the solute is :

- (1) 61.85 g mol^{-1}
- (2) 87.3 g/mol
- (3) 13.9 g mol^{-1}
- (4) 56.7 g mol^{-1}

Options :

212807126685. 1
212807126686. 2
212807126687. 3
212807126688. 4

Question Number : 292 Question Id : 21280731672 Question Type : MCQ Option Shuffling : No Is Question Mandatory : No Calculator : None Response Time : N.A Think Time : N.A Minimum Instruction Time : 0

Correct Marks : 5 Wrong Marks : 1

Question Key Details :

Key	Value
Comprehension	Compl

सभी गुण, जो विलयन में उपस्थित कुल कणों की संख्या तथा विलेय कणों की संख्या के अनुपात पर निर्भर करते हैं न कि विलेय के कणों की प्रकृति पर। ऐसे गुण अणुसंख्य गुणधर्म कहलाते हैं ये विलायक के वाष्प दाब के आपेक्षिक अवनमन, विलायक के हिमांक का अवनमन, विलायक के क्वथनांक का उन्नयन, विलयन का परासरण दाब आदि से संबंधित है। उनके सभी कण विलेय के प्रेक्षित मोलर द्रव्यमान की गणना करने में सहायता करते हैं। परासरण दाब का निर्धारण विलेय के आपेक्षिक द्रव्यमान के निर्धारण के लिए श्रेष्ठ माना जाता है।

170 g के एक विलयन में अज्ञात विलेय का 12.5 g है। जल 0.63 K क्वथनांक में उन्नयन देता है। जल के लिए $k_b = 0.53 \text{ K kg mol}^{-1}$ । विलेय का मोलर द्रव्यमान है :

- (1) 61.85 g mol^{-1}
- (2) 87.3 g/mol
- (3) 13.9 g mol^{-1}
- (4) 56.7 g mol^{-1}

Options :

212807126685. 1
212807126686. 2
212807126687. 3
212807126688. 4

Question Number : 293 Question Id : 21280731673 Question Type : MCQ Option Shuffling : No Is Question Mandatory : No Calculator : None Response Time : N.A Think Time : N.A Minimum Instruction Time : 0

Correct Marks : 5 Wrong Marks : 1

Question Key Details :

Key	Value
Comprehension	Compl

The properties which depend on the number of solute particles irrespective of their nature relative to the total numbers of particles in the solution are called colligative properties. These are relative lowering of vapour pressure, of the solvent, depression of freezing point of the solvent, elevation of boiling point of the solvent and osmotic pressure of the solution. All of their particles help in calculating the observed molar mass of the solute. Determination of osmotic pressure is considered best for the determination of molecular mass of the solute.

Which solution has the highest boiling point ?

- (1) 0.1 m glucose
- (2) 0.5 m glucose
- (3) 1 m glucose
- (4) 2 m glucose

Options :

212807126689. 1
212807126690. 2
212807126691. 3
212807126692. 4

Question Number : 293 Question Id : 21280731673 Question Type : MCQ Option Shuffling : No Is Question Mandatory : No Calculator : None
Response Time : N.A Think Time : N.A Minimum Instruction Time : 0

Correct Marks : 5 Wrong Marks : 1

Question Key Details :

Key	Value
Comprehension	Comp1

सभी गुण, जो विलयन में उपस्थित कुल कणों की संख्या तथा विलेय कणों की संख्या के अनुपात पर निर्भर करते हैं न कि विलेय के कणों की प्रकृति पर। ऐसे गुण अणुसंख्य गुणधर्म कहलाते हैं ये विलायक के वाष्प दाब के आपेक्षिक अवनमन, विलायक के हिमांक का अवनमन, विलायक के क्वथनांक का उन्नयन, विलयन का परासरण दाब आदि से संबंधित हैं। उनके सभी कण विलेय के प्रेक्षित मोलर द्रव्यमान की गणना करने में सहायता करते हैं। परासरण दाब का निर्धारण विलेय के आणविक द्रव्यमान के निर्धारण के लिए श्रेष्ठ माना जाता है।

कौन सा विलयन उच्चतम क्वथनांक रखता है ?

- (1) 0.1 m ग्लूकोस
- (2) 0.5 m ग्लूकोस
- (3) 1 m ग्लूकोस
- (4) 2 m ग्लूकोस

Options :

212807126689. 1
212807126690. 2
212807126691. 3
212807126692. 4

Question Number : 294 Question Id : 21280731674 Question Type : MCQ Option Shuffling : No Is Question Mandatory : No Calculator : None
Response Time : N.A Think Time : N.A Minimum Instruction Time : 0

Correct Marks : 5 Wrong Marks : 1

Question Key Details :

Key	Value
Comprehension	Comp1

The properties which depend on the number of solute particles irrespective of their nature relative to the total numbers of particles in the solution are called colligative properties. These are relative lowering of vapour pressure, of the solvent, depression of freezing point of the solvent, elevation of boiling point of the solvent and osmotic pressure of the solution. All of their particles help in calculating the observed molar mass of the solute. Determination of osmotic pressure is considered best for the determination of molecular mass of the solute.

Based on solute solvent interactions, arrange the following in order of increasing solubility in n-octane.

- (A) Cycloheptane
- (B) NaCl
- (C) CH₃OH
- (D) CH₃CN

Choose the correct answer from the options given below :

- (1) (D) < (C) < (B) < (A)
- (2) (B) < (C) < (D) < (A)
- (3) (A) < (D) < (C) < (B)
- (4) (B) < (A) < (D) < (C)

Options :

- 212807126693. 1
- 212807126694. 2
- 212807126695. 3
- 212807126696. 4

Question Number : 294 Question Id : 21280731674 Question Type : MCQ Option Shuffling : No Is Question Mandatory : No Calculator : None Response Time : N.A Think Time : N.A Minimum Instruction Time : 0

Correct Marks : 5 Wrong Marks : 1

Question Key Details :

Key	Value
Comprehension	Compl

सभी गुण, जो विलयन में उपस्थित कुल कणों की संख्या तथा विलेय कणों की संख्या के अनुपात पर निर्भर करते हैं न कि विलेय के कणों की प्रकृति पर। ऐसे गुण अणुसंख्य गुणधर्म कहलाते हैं ये विलायक के वाष्प दाब के आपेक्षिक अवनमन, विलायक के हिमांक का अवनमन, विलायक के क्वथनांक का उन्नयन, विलयन का परासरण दाब आदि से संबंधित है। उनके सभी कण विलेय के प्रेक्षित मोलर द्रव्यमान की गणना करने में सहायता करते हैं। परासरण दाब का निर्धारण विलेय के आण्विक द्रव्यमान के निर्धारण के लिए श्रेष्ठ माना जाता है।

विलेय-विलायक अन्तरक्रिया के आधार पर n-ऑक्टेन में विलेयता के बढ़ते क्रम में व्यवस्थित कीजिए।

- (A) साइक्लोहेप्टेन
- (B) NaCl
- (C) CH₃OH
- (D) CH₃CN

नीचे दिए गए विकल्पों में सही उत्तर का चयन कीजिए :

- (1) (D) < (C) < (B) < (A)
- (2) (B) < (C) < (D) < (A)
- (3) (A) < (D) < (C) < (B)
- (4) (B) < (A) < (D) < (C)

Options :

212807126693. 1
212807126694. 2
212807126695. 3
212807126696. 4

Question Number : 295 Question Id : 21280731675 Question Type : MCQ Option Shuffling : No Is Question Mandatory : No Calculator : None
Response Time : N.A Think Time : N.A Minimum Instruction Time : 0

Correct Marks : 5 Wrong Marks : 1

Question Key Details :

Key	Value
Comprehension	Comp1

The properties which depend on the number of solute particles irrespective of their nature relative to the total numbers of particles in the solution are called colligative properties. These are relative lowering of vapour pressure, of the solvent, depression of freezing point of the solvent, elevation of boiling point of the solvent and osmotic pressure of the solution. All of their particles help in calculating the observed molar mass of the solute. Determination of osmotic pressure is considered best for the determination of molecular mass of the solute.

A 1 litre solution of glucose containing 36 g of it has an osmotic pressure of 4.98 bar at 300 K. At the same temperature, the osmotic pressure of the solution is 1.52 bar. The concentration of the solution at 1.52 bar is :

- (1) 0.0610 mol^{-1}
- (2) 10.9 mol^{-1}
- (3) 1.6 mol^{-1}
- (4) 0.00610 mol^{-1}

Options :

212807126697. 1
212807126698. 2
212807126699. 3
212807126700. 4

Question Number : 295 Question Id : 21280731675 Question Type : MCQ Option Shuffling : No Is Question Mandatory : No Calculator : None
Response Time : N.A Think Time : N.A Minimum Instruction Time : 0

Correct Marks : 5 Wrong Marks : 1

Question Key Details :

Key	Value
Comprehension	Comp1

सभी गुण, जो विलयन में उपस्थित कुल कणों की संख्या तथा विलेय कणों की संख्या के अनुपात पर निर्भर करते हैं न कि विलेय के कणों की प्रकृति पर। ऐसे गुण अणुसंख्य गुणधर्म कहलाते हैं ये विलायक के वाष्प दाब के आपेक्षिक अवनमन, विलायक के हिमांक का अवनमन, विलायक के क्वथनांक का उन्नयन, विलयन का परासरण दाब आदि से संबंधित हैं। उनके सभी कण विलेय के प्रेक्षित मोलर द्रव्यमान की गणना करने में सहायता करते हैं। परासरण दाब का निर्धारण विलेय के आणविक द्रव्यमान के निर्धारण के लिए श्रेष्ठ माना जाता है।

1 लीटर विलयन में ग्लूकोस 36 g है, जिसका 300 K पर परासरण दाब 4.98 bar है। समान तापमान पर विलयन का परासरण दाब 1.52 bar है। 1.52 bar पर विलयन की सांद्रता है :

- (1) 0.0610 mol^{-1}
- (2) 10.9 mol^{-1}
- (3) 1.6 mol^{-1}
- (4) 0.00610 mol^{-1}

Options :

212807126697. 1
212807126698. 2
212807126699. 3

212807126700. 4

Sub-Section Number : 3
Sub-Section Id : 2128072498
Question Shuffling Allowed : No
Is Section Default? : null

Question Number : 296 Question Id : 21280731676 Question Type : MCQ Option Shuffling : No Is Question Mandatory : No Calculator : None
Response Time : N.A Think Time : N.A Minimum Instruction Time : 0

Correct Marks : 5 Wrong Marks : 1

Question Key Details :

Key	Value
Comprehension	Comp2

Werner was the first to describe the bonding features in coordination compounds. But his theory could not answer basic questions like :

- (i) Why only certain elements possess the remarkable property of forming coordination compounds ?
- (ii) Why the bonds in coordination compounds have directional properties ?
- (iii) Why coordination compounds have characteristics magnetic and optical properties ?

Many approaches have been put forth to explain the nature of bonding in coordination compounds viz. Valence Bond Theory (VBT), Crystal Field Theory (CFT), Ligand Field Theory (LFT) and Molecular Orbital Theory (MOT). We shall focus our attention on elementary treatment of the application of VBT and CFT to coordination compounds.

According to this theory, the metal atom or ion under the influence of ligands can use its $(n-1)d$, ns np or ns , np , nd orbitals for hybridisation to yield a set of equivalent orbitals of definite geometry such as octahedral, tetrahedral, square planar and so on. These hybridised orbitals are allowed to overlap with ligand orbitals that can donate electron pairs for bonding.

The formula which correctly represents Potassium tetra hydroxo zincate (II) is :

- (1) $K[Zn(OH)_4]$
- (2) $K_3[Zn(OH)_4]_3$
- (3) $K_4[Zn(OH)_4]$
- (4) $K_2[Zn(OH)_4]$

Options :

212807126701. 1
212807126702. 2
212807126703. 3
212807126704. 4

Question Number : 296 Question Id : 21280731676 Question Type : MCQ Option Shuffling : No Is Question Mandatory : No Calculator : None
Response Time : N.A Think Time : N.A Minimum Instruction Time : 0

Correct Marks : 5 Wrong Marks : 1

Question Key Details :

Key	Value
Comprehension	Comp2

निम्नलिखित गद्यांश के आधार पर है :

उपसहसंयोजक यौगिकों में आबंधन की प्रकृति का वर्णन सर्वप्रथम वर्नर ने किया था। परंतु यह सिद्धांत निम्न आधारभूत प्रश्नों का उत्तर नहीं दे सका –

- (i) क्यों कुछ ही तत्वों में उपसहसंयोजन यौगिक बनाने का विशिष्ट गुण पाया जाता है?
- (ii) उपसहसंयोजन यौगिकों के आबंधों में दिशात्मक गुण क्यों पाए जाते हैं?
- (iii) क्यों उपसहसंयोजन यौगिकों में विशिष्ट चुंबकीय तथा ध्रुवण घूर्णक गुण पाए जाते हैं?

उपसहसंयोजन यौगिकों में आबंधन की प्रकृति को समझने के लिए अनेक प्रस्ताव दिए गए यथा संयोजकता आबंध सिद्धांत (VBT), क्रिस्टल क्षेत्र सिद्धांत (CFT), लिगण्ड क्षेत्र सिद्धांत (LFT), आण्विक कक्षक सिद्धांत (MOT)। हम यहाँ केवल VBT तथा CFT के प्राथमिक विवेचन पर ही अपना ध्यान केंद्रित करेंगे।

इस सिद्धांत के अनुसार, लिगण्डों के प्रभाव में धातु परमाणु/आयन अपने $(n-1)d$, ns np अथवा ns , np , nd कक्षकों का उपयोग संकरण के लिए कर सकता है जिससे विभिन्न ज्यामितियों जैसे अष्टफलकीय, चतुष्फलकीय, वर्ग समतली आदि के समकक्ष कक्षक उपलब्ध हो सकें। ये संकरित कक्षक उन लिगण्ड कक्षकों के साथ अतिव्यापन करते हैं जो अपना इलेक्ट्रॉन युगल आबंधन के लिए इन्हें दान करते हैं।

वह सूत्र जो पोटैशियम टेट्राहाइड्रोक्सो जिंकेट (II) का सही निरूपण है :

- (1) $K[Zn(OH)_4]$
- (2) $K_3[Zn(OH)_4]_3$
- (3) $K_4[Zn(OH)_4]$
- (4) $K_2[Zn(OH)_4]$

Options :

212807126701. 1
212807126702. 2
212807126703. 3
212807126704. 4

Question Number : 297 Question Id : 21280731677 Question Type : MCQ Option Shuffling : No Is Question Mandatory : No Calculator : None
Response Time : N.A Think Time : N.A Minimum Instruction Time : 0

Correct Marks : 5 Wrong Marks : 1

Question Key Details :

Key	Value
Comprehension	Comp2

Werner was the first to describe the bonding features in coordination compounds. But his theory could not answer basic questions like :

- (i) Why only certain elements possess the remarkable property of forming coordination compounds ?
- (ii) Why the bonds in coordination compounds have directional properties ?
- (iii) Why coordination compounds have characteristics magnetic and optical properties ?

Many approaches have been put forth to explain the nature of bonding in coordination compounds viz. Valence Bond Theory (VBT), Crystal Field Theory (CFT), Ligand Field Theory (LFT) and Molecular Orbital Theory (MOT). We shall focus our attention on elementary treatment of the application of VBT and CFT to coordination compounds.

According to this theory, the metal atom or ion under the influence of ligands can use its $(n-1)d$, ns np or ns , np , nd orbitals for hybridisation to yield a set of equivalent orbitals of definite geometry such as octahedral, tetrahedral, square planar and so on. These hybridised orbitals are allowed to overlap with ligand orbitals that can donate electron pairs for bonding.

$\text{CoCl}_3 \cdot 6\text{NH}_3$ gives 3 moles of AgCl on reacting with AgNO_3 . The correct formula for this compound is :

- (1) $[\text{Co}(\text{NH}_3)_6]\text{Cl}_3$
- (2) $[\text{CoCl}(\text{NH}_3)_5]\text{Cl}_2 \cdot \text{NH}_3$
- (3) $[\text{CoCl}_2(\text{NH}_3)_4]\text{Cl} \cdot 2\text{NH}_3$
- (4) $[\text{CoCl}_3(\text{NH}_3)_3] \cdot 3\text{NH}_3$

Options :

212807126705. 1

212807126706. 2

212807126707. 3

212807126708. 4

Question Number : 297 Question Id : 21280731677 Question Type : MCQ Option Shuffling : No Is Question Mandatory : No Calculator : None
Response Time : N.A Think Time : N.A Minimum Instruction Time : 0

Correct Marks : 5 Wrong Marks : 1

Question Key Details :

Key	Value
Comprehension	Comp2

निम्नलिखित गद्यांश के आधार पर है :

उपसहसंयोजक यौगिकों में आबंधन की प्रकृति का वर्णन सर्वप्रथम वर्नर ने किया था। परंतु यह सिद्धांत निम्न आधारभूत प्रश्नों का उत्तर नहीं दे सका –

- (i) क्यों कुछ ही तत्वों में उपसहसंयोजन यौगिक बनाने का विशिष्ट गुण पाया जाता है?
- (ii) उपसहसंयोजन यौगिकों के आबंधों में दिशात्मक गुण क्यों पाए जाते हैं?
- (iii) क्यों उपसहसंयोजन यौगिकों में विशिष्ट चुंबकीय तथा ध्रुवण घूर्णक गुण पाए जाते हैं?

उपसहसंयोजन यौगिकों में आबंधन की प्रकृति को समझने के लिए अनेक प्रस्ताव दिए गए यथा संयोजकता आबंध सिद्धांत (VBT), क्रिस्टल क्षेत्र सिद्धांत (CFT), लिगण्ड क्षेत्र सिद्धांत (LFT), आण्विक कक्षक सिद्धांत (MOT)। हम यहाँ केवल VBT तथा CFT के प्राथमिक विवेचन पर ही अपना ध्यान केंद्रित करेंगे।

इस सिद्धांत के अनुसार, लिगण्डों के प्रभाव में धातु परमाणु/आयन अपने $(n-1)d, ns, np$ अथवा ns, np, nd कक्षकों का उपयोग संकरण के लिए कर सकता है जिससे विभिन्न ज्यामितियों जैसे अष्टफलकीय, चतुष्फलकीय, वर्ग समतली आदि के समकक्ष कक्षक उपलब्ध हो सकें। ये संकरित कक्षक उन लिगण्ड कक्षकों के साथ अतिव्यापन करते हैं जो अपना इलेक्ट्रॉन युगल आबंधन के लिए इन्हें दान करते हैं।

$\text{CoCl}_3 \cdot 6\text{NH}_3$, AgNO_3 के साथ अभिक्रिया करने पर 3 मोल AgCl देते हैं। इस यौगिक का सही सूत्र है :

- (1) $[\text{Co}(\text{NH}_3)_6]\text{Cl}_3$
- (2) $[\text{CoCl}(\text{NH}_3)_5]\text{Cl}_2 \cdot \text{NH}_3$
- (3) $[\text{CoCl}_2(\text{NH}_3)_4]\text{Cl} \cdot 2\text{NH}_3$
- (4) $[\text{CoCl}_3(\text{NH}_3)_3] \cdot 3\text{NH}_3$

Options :

212807126705. 1
212807126706. 2
212807126707. 3
212807126708. 4

Question Number : 298 Question Id : 21280731678 Question Type : MCQ Option Shuffling : No Is Question Mandatory : No Calculator : None
Response Time : N.A Think Time : N.A Minimum Instruction Time : 0

Correct Marks : 5 Wrong Marks : 1

Question Key Details :

Key	Value
Comprehension	Comp2

Werner was the first to describe the bonding features in coordination compounds. But his theory could not answer basic questions like :

- (i) Why only certain elements possess the remarkable property of forming coordination compounds ?
- (ii) Why the bonds in coordination compounds have directional properties ?
- (iii) Why coordination compounds have characteristics magnetic and optical properties ?

Many approaches have been put forth to explain the nature of bonding in coordination compounds viz. Valence Bond Theory (VBT), Crystal Field Theory (CFT), Ligand Field Theory (LFT) and Molecular Orbital Theory (MOT). We shall focus our attention on elementary treatment of the application of VBT and CFT to coordination compounds.

According to this theory, the metal atom or ion under the influence of ligands can use its $(n-1)d$, ns np or ns , np , nd orbitals for hybridisation to yield a set of equivalent orbitals of definite geometry such as octahedral, tetrahedral, square planar and so on. These hybridised orbitals are allowed to overlap with ligand orbitals that can donate electron pairs for bonding.

Predict the shape of $[\text{Ni}(\text{CO})_4]$ on the basis of VBT :

- (1) Square Planar
- (2) Tetrahedral
- (3) Inner octahedral
- (4) Outer octahedral

Options :

212807126709. 1
212807126710. 2
212807126711. 3
212807126712. 4

Question Number : 298 Question Id : 21280731678 Question Type : MCQ Option Shuffling : No Is Question Mandatory : No Calculator : None
Response Time : N.A Think Time : N.A Minimum Instruction Time : 0

Correct Marks : 5 Wrong Marks : 1

Question Key Details :

Key	Value
Comprehension	Comp2

निम्नलिखित गद्यांश के आधार पर है :

उपसहसंयोजक यौगिकों में आबंधन की प्रकृति का वर्णन सर्वप्रथम वर्नर ने किया था। परंतु यह सिद्धांत निम्न आधारभूत प्रश्नों का उत्तर नहीं दे सका –

- (i) क्यों कुछ ही तत्वों में उपसहसंयोजन यौगिक बनाने का विशिष्ट गुण पाया जाता है?
- (ii) उपसहसंयोजन यौगिकों के आबंधों में दिशात्मक गुण क्यों पाए जाते हैं?
- (iii) क्यों उपसहसंयोजन यौगिकों में विशिष्ट चुंबकीय तथा ध्रुवण घूर्णक गुण पाए जाते हैं?

उपसहसंयोजन यौगिकों में आबंधन की प्रकृति को समझने के लिए अनेक प्रस्ताव दिए गए यथा संयोजकता आबंध सिद्धांत (VBT), क्रिस्टल क्षेत्र सिद्धांत (CFT), लिगण्ड क्षेत्र सिद्धांत (LFT), आण्विक कक्षक सिद्धांत (MOT)। हम यहाँ केवल VBT तथा CFT के प्राथमिक विवेचन पर ही अपना ध्यान केंद्रित करेंगे।

इस सिद्धांत के अनुसार, लिगण्डों के प्रभाव में धातु परमाणु/आयन अपने $(n-1)d, ns, np$ अथवा ns, np, nd कक्षकों का उपयोग संकरण के लिए कर सकता है जिससे विभिन्न ज्यामितियों जैसे अष्टफलकीय, चतुष्फलकीय, वर्ग समतली आदि के समकक्ष कक्षक उपलब्ध हो सकें। ये संकरित कक्षक उन लिगण्ड कक्षकों के साथ अतिव्यापन करते हैं जो अपना इलेक्ट्रॉन युगल आबंधन के लिए इन्हें दान करते हैं।

$[Ni(CO)_4]$ की VBT के आधार पर आकृति का परिकलन कीजिए :

- (1) वर्ग समतली
- (2) चतुष्फलकीय
- (3) अन्तः अष्टफलकीय
- (4) बाह्य अष्टफलकीय

Options :

212807126709. 1
212807126710. 2
212807126711. 3
212807126712. 4

Question Number : 299 Question Id : 21280731679 Question Type : MCQ Option Shuffling : No Is Question Mandatory : No Calculator : None
Response Time : N.A Think Time : N.A Minimum Instruction Time : 0

Correct Marks : 5 Wrong Marks : 1

Question Key Details :

Key	Value
Comprehension	Comp2

Werner was the first to describe the bonding features in coordination compounds. But his theory could not answer basic questions like :

- (i) Why only certain elements possess the remarkable property of forming coordination compounds ?
- (ii) Why the bonds in coordination compounds have directional properties ?
- (iii) Why coordination compounds have characteristics magnetic and optical properties ?

Many approaches have been put forth to explain the nature of bonding in coordination compounds viz. Valence Bond Theory (VBT), Crystal Field Theory (CFT), Ligand Field Theory (LFT) and Molecular Orbital Theory (MOT). We shall focus our attention on elementary treatment of the application of VBT and CFT to coordination compounds.

According to this theory, the metal atom or ion under the influence of ligands can use its $(n-1)d$, ns np or ns , np , nd orbitals for hybridisation to yield a set of equivalent orbitals of definite geometry such as octahedral, tetrahedral, square planar and so on. These hybridised orbitals are allowed to overlap with ligand orbitals that can donate electron pairs for bonding.

Predict the type of hybridisation state in $[\text{CoF}_6]^{3-}$

- (1) sp^3
- (2) dsp^2
- (3) sp^3d^2
- (4) d^2sp^3

Options :

212807126713. 1
212807126714. 2
212807126715. 3
212807126716. 4

Question Number : 299 Question Id : 21280731679 Question Type : MCQ Option Shuffling : No Is Question Mandatory : No Calculator : None
Response Time : N.A Think Time : N.A Minimum Instruction Time : 0

Correct Marks : 5 Wrong Marks : 1

Question Key Details :

Key	Value
Comprehension	Comp2

निम्नलिखित गद्यांश के आधार पर है :

उपसहसंयोजक यौगिकों में आबंधन की प्रकृति का वर्णन सर्वप्रथम वर्नर ने किया था। परंतु यह सिद्धांत निम्न आधारभूत प्रश्नों का उत्तर नहीं दे सका –

- (i) क्यों कुछ ही तत्वों में उपसहसंयोजन यौगिक बनाने का विशिष्ट गुण पाया जाता है?
- (ii) उपसहसंयोजन यौगिकों के आबंधों में दिशात्मक गुण क्यों पाए जाते हैं?
- (iii) क्यों उपसहसंयोजन यौगिकों में विशिष्ट चुंबकीय तथा ध्रुवण घूर्णक गुण पाए जाते हैं?

उपसहसंयोजन यौगिकों में आबंधन की प्रकृति को समझने के लिए अनेक प्रस्ताव दिए गए यथा संयोजकता आबंध सिद्धांत (VBT), क्रिस्टल क्षेत्र सिद्धांत (CFT), लिगण्ड क्षेत्र सिद्धांत (LFT), आण्विक कक्षक सिद्धांत (MOT)। हम यहाँ केवल VBT तथा CFT के प्राथमिक विवेचन पर ही अपना ध्यान केंद्रित करेंगे।

इस सिद्धांत के अनुसार, लिगण्डों के प्रभाव में धातु परमाणु/आयन अपने $(n-1)d, ns, np$ अथवा ns, np, nd कक्षकों का उपयोग संकरण के लिए कर सकता है जिससे विभिन्न ज्यामितियों जैसे अष्टफलकीय, चतुष्फलकीय, वर्ग समतली आदि के समकक्ष कक्षक उपलब्ध हो सकें। ये संकरित कक्षक उन लिगण्ड कक्षकों के साथ अतिव्यापन करते हैं जो अपना इलेक्ट्रॉन युगल आबंधन के लिए इन्हें दान करते हैं।

$[\text{CoF}_6]^{3-}$ में संकरण की अवस्था को परिकल्पित कीजिए :

- (1) sp^3
- (2) dsp^2
- (3) sp^3d^2
- (4) d^2sp^3

Options :

212807126713. 1

212807126714. 2

212807126715. 3

212807126716. 4

Question Number : 300 Question Id : 21280731680 Question Type : MCQ Option Shuffling : No Is Question Mandatory : No Calculator : None

Response Time : N.A Think Time : N.A Minimum Instruction Time : 0

Correct Marks : 5 Wrong Marks : 1

Question Key Details :

Key	Value
Comprehension	Comp2

Werner was the first to describe the bonding features in coordination compounds. But his theory could not answer basic questions like :

- (i) Why only certain elements possess the remarkable property of forming coordination compounds ?
- (ii) Why the bonds in coordination compounds have directional properties ?
- (iii) Why coordination compounds have characteristics magnetic and optical properties ?

Many approaches have been put forth to explain the nature of bonding in coordination compounds viz. Valence Bond Theory (VBT), Crystal Field Theory (CFT), Ligand Field Theory (LFT) and Molecular Orbital Theory (MOT). We shall focus our attention on elementary treatment of the application of VBT and CFT to coordination compounds.

According to this theory, the metal atom or ion under the influence of ligands can use its $(n-1)d$, ns np or ns , np , nd orbitals for hybridisation to yield a set of equivalent orbitals of definite geometry such as octahedral, tetrahedral, square planar and so on. These hybridised orbitals are allowed to overlap with ligand orbitals that can donate electron pairs for bonding.

Which of the following pair of ions is colourless according to CFT ?

- (1) Ti^{4+} , Zn^{2+}
- (2) V^{2+} , Mn^{2+}
- (3) Sc^{3+} , Cu^{2+}
- (4) Cr^{3+} , Fe^{3+}

Options :

212807126717. 1
212807126718. 2
212807126719. 3
212807126720. 4

Question Number : 300 Question Id : 21280731680 Question Type : MCQ Option Shuffling : No Is Question Mandatory : No Calculator : None
Response Time : N.A Think Time : N.A Minimum Instruction Time : 0

Correct Marks : 5 Wrong Marks : 1

Question Key Details :

Key	Value
Comprehension	Comp2

निम्नलिखित गद्यांश के आधार पर है :

उपसहसंयोजक यौगिकों में आबंधन की प्रकृति का वर्णन सर्वप्रथम वर्नर ने किया था। परंतु यह सिद्धांत निम्न आधारभूत प्रश्नों का उत्तर नहीं दे सका –

- (i) क्यों कुछ ही तत्वों में उपसहसंयोजन यौगिक बनाने का विशिष्ट गुण पाया जाता है?
- (ii) उपसहसंयोजन यौगिकों के आबंधों में दिशात्मक गुण क्यों पाए जाते हैं?
- (iii) क्यों उपसहसंयोजन यौगिकों में विशिष्ट चुंबकीय तथा ध्रुवण घूर्णक गुण पाए जाते हैं?

उपसहसंयोजन यौगिकों में आबंधन की प्रकृति को समझने के लिए अनेक प्रस्ताव दिए गए यथा संयोजकता आबंध सिद्धांत (VBT), क्रिस्टल क्षेत्र सिद्धांत (CFT), लिगण्ड क्षेत्र सिद्धांत (LFT), आण्विक कक्षक सिद्धांत (MOT)। हम यहाँ केवल VBT तथा CFT के प्राथमिक विवेचन पर ही अपना ध्यान केंद्रित करेंगे।

इस सिद्धांत के अनुसार, लिगण्डों के प्रभाव में धातु परमाणु/आयन अपने $(n-1)d, ns, np$ अथवा ns, np, nd कक्षकों का उपयोग संकरण के लिए कर सकता है जिससे विभिन्न ज्यामितियों जैसे अष्टफलकीय, चतुष्फलकीय, वर्ग समतली आदि के समकक्ष कक्षक उपलब्ध हो सकें। ये संकरित कक्षक उन लिगण्ड कक्षकों के साथ अतिव्यापन करते हैं जो अपना इलेक्ट्रॉन युगल आबंधन के लिए इन्हें दान करते हैं।

निम्न में कौन-से आयनों के युग्म CFT के अनुसार रंगहीन है?

- (1) Ti^{4+}, Zn^{2+}
- (2) V^{2+}, Mn^{2+}
- (3) Sc^{3+}, Cu^{2+}
- (4) Cr^{3+}, Fe^{3+}

Options :

212807126717. 1
212807126718. 2
212807126719. 3
212807126720. 4

Enviromental Studies

Group Number :	13
Group Id :	212807737
Group Maximum Duration :	45
Group Minimum Duration :	45
Show Attended Group? :	No
Edit Attended Group? :	No
Break time :	0
Group Marks :	200
Is this Group for Examiner? :	No
Examiner permission :	Can't View
Show Progress Bar? :	No

Enviromental Studies

Section Id :	212807867
Section Number :	1
Section type :	Online
Mandatory or Optional :	Mandatory
Number of Questions :	50
Number of Questions to be attempted :	40
Section Marks :	200
Enable Mark as Answered Mark for Review and Clear Response :	Yes
Maximum Instruction Time :	0
Sub-Section Number :	1
Sub-Section Id :	2128072499

Question Shuffling Allowed :
Is Section Default? :

Yes
null

Question Number : 301 Question Id : 21280731916 Question Type : MCQ Option Shuffling : No Is Question Mandatory : No Calculator : None
Response Time : N.A Think Time : N.A Minimum Instruction Time : 0

Correct Marks : 5 Wrong Marks : 1

Question Key Details :

Key	Value
Comprehension	MCQ

International Ozone day is celebrated on :

- (1) 22 April
- (2) 22 March
- (3) 16 September
- (4) 5 June

Options :

212807127661. 1
212807127662. 2
212807127663. 3
212807127664. 4

Question Number : 301 Question Id : 21280731916 Question Type : MCQ Option Shuffling : No Is Question Mandatory : No Calculator : None
Response Time : N.A Think Time : N.A Minimum Instruction Time : 0

Correct Marks : 5 Wrong Marks : 1

Question Key Details :

Key	Value
Comprehension	MCQ

अंतर्राष्ट्रीय ओजोन दिवस कब मनाया जाता है ?

- (1) 22 अप्रैल
- (2) 22 मार्च
- (3) 16 सितम्बर
- (4) 5 जून

Options :

212807127661. 1
212807127662. 2
212807127663. 3
212807127664. 4

Question Number : 302 Question Id : 21280731917 Question Type : MCQ Option Shuffling : No Is Question Mandatory : No Calculator : None
Response Time : N.A Think Time : N.A Minimum Instruction Time : 0

Correct Marks : 5 Wrong Marks : 1

Question Key Details :

Key	Value
Comprehension	MCQ

'Saving the forests as trees give us oxygen and better air quality'. The ecological philosophy of the above mentioned sentence was coined by :

- (1) Woodrow Wilso
- (2) Barry Commoner
- (3) Gary Stryder
- (4) Arne Naess

Options :

212807127665. 1
212807127666. 2
212807127667. 3

Question Number : 302 Question Id : 21280731917 Question Type : MCQ Option Shuffling : No Is Question Mandatory : No Calculator : None
Response Time : N.A Think Time : N.A Minimum Instruction Time : 0

Correct Marks : 5 Wrong Marks : 1

Question Key Details :

Key	Value
Comprehension	MCQ

वनों को बचाना है क्योंकि पेड़ हमें ऑक्सीजन और बेहतर वायु गुणवत्ता देते हैं। उपरोक्त उल्लिखित कथन का पारिस्थितिकी दर्शन किसने दिया था ?

- (1) वुडरो विल्सन
- (2) बैरी कॉमनर
- (3) गेरी सनायडर
- (4) अर्ने नीस

Options :

212807127665. 1
212807127666. 2
212807127667. 3
212807127668. 4

Question Number : 303 Question Id : 21280731918 Question Type : MCQ Option Shuffling : No Is Question Mandatory : No Calculator : None
Response Time : N.A Think Time : N.A Minimum Instruction Time : 0

Correct Marks : 5 Wrong Marks : 1

Question Key Details :

Key	Value
Comprehension	MCQ

The practice of stewardship of land in ecology has three levels. Which of the following is not a part of stewardship practice ?

- (1) Wilderness Preservation
- (2) Conservation Easement
- (3) Land Management
- (4) Community Stewardship

Options :

212807127669. 1
212807127670. 2
212807127671. 3
212807127672. 4

Question Number : 303 Question Id : 21280731918 Question Type : MCQ Option Shuffling : No Is Question Mandatory : No Calculator : None
Response Time : N.A Think Time : N.A Minimum Instruction Time : 0

Correct Marks : 5 Wrong Marks : 1

Question Key Details :

Key	Value
Comprehension	MCQ

पारिस्थितिकी शास्त्र में भूमि की स्टीवर्डशिप प्रथा में तीन स्तर होते हैं। निम्नलिखित में से कौन-सा स्टीवर्डशिप प्रथा का भाग नहीं है ?

- (1) जंगलांत अनुरक्षण
- (2) संरक्षण सुखकारिता
- (3) भूमि प्रबंधन
- (4) समुदाय स्टीवर्डशिप

Options :

212807127669. 1
212807127670. 2
212807127671. 3
212807127672. 4

Question Number : 304 Question Id : 21280731919 Question Type : MCQ Option Shuffling : No Is Question Mandatory : No Calculator : None
Response Time : N.A Think Time : N.A Minimum Instruction Time : 0

Correct Marks : 5 Wrong Marks : 1

Question Key Details :

Key	Value
Comprehension	MCQ

Which of the following statements about sustainable development is incorrect ?

- (1) It includes the aspect of socio-economic equity.
- (2) It was introduced in the Brundtland Commission
- (3) The first report to mention it was "Our common Future"
- (4) It does not include the aspect of inter-generational equity

Options :

212807127673. 1
212807127674. 2
212807127675. 3
212807127676. 4

Question Number : 304 Question Id : 21280731919 Question Type : MCQ Option Shuffling : No Is Question Mandatory : No Calculator : None
Response Time : N.A Think Time : N.A Minimum Instruction Time : 0

Correct Marks : 5 Wrong Marks : 1

Question Key Details :

Key	Value
Comprehension	MCQ

सतत विकास के बारे में निम्नलिखित से कौन-सा कथन असत्य है ?

- (1) इसमें सामाजिक-आर्थिक समता का पहलू सम्मिलित होता है।
- (2) यह ब्रुन्टलैंड आयोग से प्रचलन में आया था ?
- (3) इस प्रथम उल्लेख "हमारा साझा भविष्य" रिपोर्ट में किया गया था
- (4) इसमें अंतर पीढ़ीगत समता का पक्ष सम्मिलित नहीं होता है

Options :

212807127673. 1
212807127674. 2
212807127675. 3
212807127676. 4

Question Number : 305 Question Id : 21280731920 Question Type : MCQ Option Shuffling : No Is Question Mandatory : No Calculator : None
Response Time : N.A Think Time : N.A Minimum Instruction Time : 0

Correct Marks : 5 Wrong Marks : 1

Question Key Details :

Key	Value
Comprehension	MCQ

Which one of the following idea is promoted by 'Earth first' ?

- (1) Deep ecology
- (2) Shallow ecology
- (3) Social ecology
- (4) Socialist ecology

Options :

212807127677. 1
212807127678. 2

212807127679. 3
212807127680. 4

Question Number : 305 Question Id : 21280731920 Question Type : MCQ Option Shuffling : No Is Question Mandatory : No Calculator : None
Response Time : N.A Think Time : N.A Minimum Instruction Time : 0

Correct Marks : 5 Wrong Marks : 1

Question Key Details :

Key	Value
Comprehension	MCQ

‘अर्थ फर्स्ट’ द्वारा निम्नलिखित में से किस विचार को बढ़ावा दिया गया था ?

- (1) गहन पारिस्थितिकी
- (2) क्षुद्र पारिस्थितिकी
- (3) सामाजिक पारिस्थितिकी
- (4) समाजवादी पारिस्थितिकी

Options :

212807127677. 1
212807127678. 2
212807127679. 3
212807127680. 4

Question Number : 306 Question Id : 21280731921 Question Type : MCQ Option Shuffling : No Is Question Mandatory : No Calculator : None
Response Time : N.A Think Time : N.A Minimum Instruction Time : 0

Correct Marks : 5 Wrong Marks : 1

Question Key Details :

Key	Value
Comprehension	MCQ

Match List - I with List - II.

List - I

- (A) Amensalism
- (B) Competition
- (C) Commensalism
- (D) Mutualism

List - II

- (I) Interaction is favourable to both species
- (II) One species is inhibited while the other species is unaffected
- (III) Adversely affects both species
- (IV) One species benefits, while the other species is neither harmed nor inhibited

Choose the **correct** answer from the options given below :

- (1) (A)-(IV), (B)-(III), (C)-(II), (D)-(I)
- (2) (A)-(IV), (B)-(III), (C)-(I), (D)-(II)
- (3) (A)-(II), (B)-(III), (C)-(I), (D)-(IV)
- (4) (A)-(II), (B)-(III), (C)-(IV), (D)-(I)

Options :

212807127681. 1
212807127682. 2
212807127683. 3
212807127684. 4

Question Number : 306 Question Id : 21280731921 Question Type : MCQ Option Shuffling : No Is Question Mandatory : No Calculator : None
Response Time : N.A Think Time : N.A Minimum Instruction Time : 0

Correct Marks : 5 Wrong Marks : 1

Question Key Details :

Key	Value
Comprehension	MCQ

सूची-I से सूची-II का मिलान कीजिए:

सूची-I	सूची-II
(A) असहयोजिता	(I) अंतरक्रिया दोनों प्रजातियों के लिए लाभकारी है
(B) प्रतिस्पर्धा	(II) एक प्रजाति लाभदायक रहती है जबकि दूसरी प्रजाति अप्रभावित रहती है
(C) परजीविता	(III) दोनों प्रजातियों पर प्रतिकमल प्रभाव पड़ता है
(D) सहजीवन/सहजीविता	(IV) एक प्रजाति को लाभ होता है जबकि अन्य प्रजाति को न हानि होती है और न अवरोधन होता है

नीचे दिए गए विकल्पों में से सही उत्तर का चयन कीजिए :

- (1) (A)-(IV), (B)-(III), (C)-(II), (D)-(I)
- (2) (A)-(IV), (B)-(III), (C)-(I), (D)-(II)
- (3) (A)-(II), (B)-(III), (C)-(I), (D)-(IV)
- (4) (A)-(II), (B)-(III), (C)-(IV), (D)-(I)

Options :

212807127681. 1
212807127682. 2
212807127683. 3
212807127684. 4

Question Number : 307 Question Id : 21280731922 Question Type : MCQ Option Shuffling : No Is Question Mandatory : No Calculator : None
Response Time : N.A Think Time : N.A Minimum Instruction Time : 0

Correct Marks : 5 Wrong Marks : 1

Question Key Details :

Key	Value
Comprehension	MCQ

Xerarch is :

- (1) Succession that takes place in pond with high DO
- (2) Succession that takes place on land with low moisture
- (3) Succession that takes place on plants with high moisture
- (4) Succession that takes place in pond with low DO

Options :

212807127685. 1
212807127686. 2
212807127687. 3
212807127688. 4

Question Number : 307 Question Id : 21280731922 Question Type : MCQ Option Shuffling : No Is Question Mandatory : No Calculator : None
Response Time : N.A Think Time : N.A Minimum Instruction Time : 0

Correct Marks : 5 Wrong Marks : 1

Question Key Details :

Key	Value
Comprehension	MCQ

शुष्कतारंभी है :

- (1) उच्च DO वाले तालाब में होने वाला अनुक्रमण
- (2) अल्प नमी वाले तालाब में होने वाला अनुक्रमण
- (3) उच्च नमी वाले पादपों में होने वाला अनुक्रमण
- (4) कम DO वाले तालाब में होने वाला अनुक्रमण

Options :

- 212807127685. 1
- 212807127686. 2
- 212807127687. 3
- 212807127688. 4

Question Number : 308 Question Id : 21280731923 Question Type : MCQ Option Shuffling : No Is Question Mandatory : No Calculator : None
Response Time : N.A Think Time : N.A Minimum Instruction Time : 0

Correct Marks : 5 Wrong Marks : 1

Question Key Details :

Key	Value
Comprehension	MCQ

Which of the following is not a in-situ conservation method ?

- (1) National park
- (2) Biosphere Reserve
- (3) Botanical Garden
- (4) Wildlife sanctuary

Options :

- 212807127689. 1
- 212807127690. 2
- 212807127691. 3
- 212807127692. 4

Question Number : 308 Question Id : 21280731923 Question Type : MCQ Option Shuffling : No Is Question Mandatory : No Calculator : None
Response Time : N.A Think Time : N.A Minimum Instruction Time : 0

Correct Marks : 5 Wrong Marks : 1

Question Key Details :

Key	Value
Comprehension	MCQ

निम्नलिखित में से कौन-सी अंतः स्थल संरक्षण विधि नहीं है ?

- (1) राष्ट्रीय पार्क
- (2) जैव मंडल आरक्षी वन/क्षेत्र
- (3) वानस्पतिक उद्यान
- (4) जीवनशैली अभ्यारण्य

Options :

- 212807127689. 1
- 212807127690. 2
- 212807127691. 3
- 212807127692. 4

Question Number : 309 Question Id : 21280731924 Question Type : MCQ Option Shuffling : No Is Question Mandatory : No Calculator : None
Response Time : N.A Think Time : N.A Minimum Instruction Time : 0

Correct Marks : 5 Wrong Marks : 1

Question Key Details :

Key	Value
Comprehension	MCQ

Majority of organisms are restricted to narrow range of salinity, are called as :

- (1) Stenohaline
- (2) Euryhaline
- (3) Halo-haline
- (4) Halophytes

Options :

- 212807127693. 1

212807127694. 2
212807127695. 3
212807127696. 4

Question Number : 309 Question Id : 21280731924 Question Type : MCQ Option Shuffling : No Is Question Mandatory : No Calculator : None
Response Time : N.A Think Time : N.A Minimum Instruction Time : 0

Correct Marks : 5 Wrong Marks : 1

Question Key Details :

Key	Value
Comprehension	MCQ

अधिकांश जीव लवणता की अल्प सीमा तक सीमित रहते हैं, जिसे कहा जाता है :

- (1) स्ट्रेनोहेलाइन
- (2) यूरहैलाइन
- (3) हालो हेलाइन
- (4) हालोफाइट्स

Options :

212807127693. 1
212807127694. 2
212807127695. 3
212807127696. 4

Question Number : 310 Question Id : 21280731925 Question Type : MCQ Option Shuffling : No Is Question Mandatory : No Calculator : None
Response Time : N.A Think Time : N.A Minimum Instruction Time : 0

Correct Marks : 5 Wrong Marks : 1

Question Key Details :

Key	Value
Comprehension	MCQ

The no. of individuals of the same species that have come into the habitat from elsewhere during the time period under consideration known as :

- (1) Population density
- (2) Emigration
- (3) Immigration
- (4) Natality

Options :

212807127697. 1
212807127698. 2
212807127699. 3
212807127700. 4

Question Number : 310 Question Id : 21280731925 Question Type : MCQ Option Shuffling : No Is Question Mandatory : No Calculator : None
Response Time : N.A Think Time : N.A Minimum Instruction Time : 0

Correct Marks : 5 Wrong Marks : 1

Question Key Details :

Key	Value
Comprehension	MCQ

अध्ययन अवधि के दौरान बाहर/अन्यत्र से लाकर पर्यावास में रहने वाले समान प्रजाति के वैयक्तिकों को कहा जाता है :

- (1) जनसंख्या घनत्व
- (2) प्रवासन
- (3) आप्रवर्जन
- (4) जन्मदर

Options :

212807127697. 1

212807127698. 2
212807127699. 3
212807127700. 4

**Question Number : 311 Question Id : 21280731926 Question Type : MCQ Option Shuffling : No Is Question Mandatory : No Calculator : None
Response Time : N.A Think Time : N.A Minimum Instruction Time : 0**

Correct Marks : 5 Wrong Marks : 1

Question Key Details :

Key	Value
Comprehension	MCQ

The population size of a community is technically called population density and designated as :

- (1) I
- (2) D
- (3) N
- (4) E

Options :

212807127701. 1
212807127702. 2
212807127703. 3
212807127704. 4

**Question Number : 311 Question Id : 21280731926 Question Type : MCQ Option Shuffling : No Is Question Mandatory : No Calculator : None
Response Time : N.A Think Time : N.A Minimum Instruction Time : 0**

Correct Marks : 5 Wrong Marks : 1

Question Key Details :

Key	Value
Comprehension	MCQ

किसी समुदाय के जनसंख्या आकार को तकनीकी रूप से जनसंख्या घनत्व कहा जाता है और इसे किस रूप में पदाविहित किया जाता है :

- (1) I
- (2) D
- (3) N
- (4) E

Options :

212807127701. 1
212807127702. 2
212807127703. 3
212807127704. 4

**Question Number : 312 Question Id : 21280731927 Question Type : MCQ Option Shuffling : No Is Question Mandatory : No Calculator : None
Response Time : N.A Think Time : N.A Minimum Instruction Time : 0**

Correct Marks : 5 Wrong Marks : 1

Question Key Details :

Key	Value
Comprehension	MCQ

Match List - I with List - II.

List - I (Wild Life Sanctuary)	List - II (State)
(A) Singalala	(I) West Bengal
(B) Talchhapar	(II) Madhya Pradesh
(C) Binsar	(III) Uttarakhand
(D) Bori	(IV) Rajasthan

Choose the correct answer from the options given below :

- (1) (A)-(I), (B)-(II), (C)-(III), (D)-(IV)
- (2) (A)-(III), (B)-(II), (C)-(IV), (D)-(I)
- (3) (A)-(I), (B)-(IV), (C)-(III), (D)-(II)
- (4) (A)-(IV), (B)-(III), (C)-(II), (D)-(I)

Options :

212807127705. 1
212807127706. 2
212807127707. 3
212807127708. 4

Question Number : 312 Question Id : 21280731927 Question Type : MCQ Option Shuffling : No Is Question Mandatory : No Calculator : None
Response Time : N.A Think Time : N.A Minimum Instruction Time : 0
Correct Marks : 5 Wrong Marks : 1

Question Key Details :

Key	Value
Comprehension	MCQ

सूची-I से सूची-II का मिलान कीजिए:

सूची-I (वन्य जीव अभ्यारण्य)	सूची-II (राज्य)
(A) सिंगालाला	(I) पश्चिमी बंगाल
(B) तालछापार	(II) मध्य प्रदेश
(C) बिनसर	(III) उत्तराखण्ड
(D) बोरी	(IV) राजस्थान

नीचे दिए गए विकल्पों में से सही उत्तर का चयन कीजिए :

- (1) (A)-(I), (B)-(II), (C)-(III), (D)-(IV)
- (2) (A)-(III), (B)-(II), (C)-(IV), (D)-(I)
- (3) (A)-(I), (B)-(IV), (C)-(III), (D)-(II)
- (4) (A)-(IV), (B)-(III), (C)-(II), (D)-(I)

Options :

212807127705. 1
212807127706. 2
212807127707. 3
212807127708. 4

Question Number : 313 Question Id : 21280731928 Question Type : MCQ Option Shuffling : No Is Question Mandatory : No Calculator : None
Response Time : N.A Think Time : N.A Minimum Instruction Time : 0
Correct Marks : 5 Wrong Marks : 1

Question Key Details :

Key	Value
Comprehension	MCQ

Arrange the following species in their increasing number in a aquatic food chain.

- (A) Phytoplankton
- (B) Zooplankton
- (C) Small fishes
- (D) Large fishes
- (E) Fish eating bird

Choose the correct answer from the options given below :

- (1) (E), (D), (C), (B), (A)
- (2) (E), (D), (C), (A), (B)
- (3) (C), (D), (E), (B), (A)
- (4) (A), (B), (C), (D), (E)

Options :

- 212807127709. 1
- 212807127710. 2
- 212807127711. 3
- 212807127712. 4

Question Number : 313 Question Id : 21280731928 Question Type : MCQ Option Shuffling : No Is Question Mandatory : No Calculator : None Response Time : N.A Think Time : N.A Minimum Instruction Time : 0

Correct Marks : 5 Wrong Marks : 1

Question Key Details :

Key	Value
Comprehension	MCQ

निम्नलिखित प्रजातियों को जलीय खाद्य श्रृंखला में उनकी बढ़ती संख्या के अनुसार व्यवस्थित करें।

- (A) फाइटो प्लैंकटन
- (B) जूप्लैंकटन
- (C) छोटी मछलियाँ
- (D) बड़ी मछलियाँ
- (E) मछली आहारी पक्षी

नीचे दिए गए विकल्पों में से सही उत्तर का चयन कीजिए :

- (1) (E), (D), (C), (B), (A)
- (2) (E), (D), (C), (A), (B)
- (3) (C), (D), (E), (B), (A)
- (4) (A), (B), (C), (D), (E)

Options :

- 212807127709. 1
- 212807127710. 2
- 212807127711. 3
- 212807127712. 4

Question Number : 314 Question Id : 21280731929 Question Type : MCQ Option Shuffling : No Is Question Mandatory : No Calculator : None Response Time : N.A Think Time : N.A Minimum Instruction Time : 0

Correct Marks : 5 Wrong Marks : 1

Question Key Details :

Key	Value
-----	-------

Net Primary Productivity (NPP) can be calculated by which of the following equation ?

- (1) $NPP = GPP + R$
- (2) $NPP = GPP - R$
- (3) $NPP = GPP + PR$
- (4) $NPP = GPP - PR$

Options :

212807127713. 1
212807127714. 2
212807127715. 3
212807127716. 4

Question Number : 314 Question Id : 21280731929 Question Type : MCQ Option Shuffling : No Is Question Mandatory : No Calculator : None
Response Time : N.A Think Time : N.A Minimum Instruction Time : 0

Correct Marks : 5 Wrong Marks : 1

Question Key Details :

Key	Value
Comprehension	MCQ

निम्नलिखित में से किस सूत्र द्वारा निवल प्राथमिक उत्पादकता (NPP) की गणना की जा सकती है?

- (1) $NPP = GPP + R$
- (2) $NPP = GPP - R$
- (3) $NPP = GPP + PR$
- (4) $NPP = GPP - PR$

Options :

212807127713. 1
212807127714. 2
212807127715. 3
212807127716. 4

Question Number : 315 Question Id : 21280731930 Question Type : MCQ Option Shuffling : No Is Question Mandatory : No Calculator : None
Response Time : N.A Think Time : N.A Minimum Instruction Time : 0

Correct Marks : 5 Wrong Marks : 1

Question Key Details :

Key	Value
Comprehension	MCQ

Arrange the following soil horizons in their order starting from the surface.

- (A) A horizon
- (B) O horizon
- (C) B horizon
- (D) E horizon
- (E) R horizon

Choose the correct answer from the options given below :

- (1) (A), (C), (D), (E), (B)
- (2) (A), (C), (E), (B), (D)
- (3) (B), (A), (D), (C), (E)
- (4) (B), (C), (E), (D), (A)

Options :

212807127717. 1
212807127718. 2
212807127719. 3
212807127720. 4

Question Number : 315 Question Id : 21280731930 Question Type : MCQ Option Shuffling : No Is Question Mandatory : No Calculator : None
Response Time : N.A Think Time : N.A Minimum Instruction Time : 0

Correct Marks : 5 Wrong Marks : 1

Question Key Details :

Key	Value
Comprehension	MCQ

किसी सामान्य मृदा प्रोफाइल के निम्नलिखित मृदा परिक्षेत्रों को सतह से शुरू करते हुए क्रमानुसार व्यवस्थित करें।

- (A) A परिक्षेत्र
- (B) O परिक्षेत्र
- (C) B परिक्षेत्र
- (D) E परिक्षेत्र
- (E) R परिक्षेत्र

नीचे दिए गए विकल्पों में से सही उत्तर का चयन कीजिए :

- (1) (A), (C), (D), (E), (B)
- (2) (A), (C), (E), (B), (D)
- (3) (B), (A), (D), (C), (E)
- (4) (B), (C), (E), (D), (A)

Options :

212807127717. 1

212807127718. 2

212807127719. 3

212807127720. 4

Question Number : 316 Question Id : 21280731931 Question Type : MCQ Option Shuffling : No Is Question Mandatory : No Calculator : None
Response Time : N.A Think Time : N.A Minimum Instruction Time : 0

Correct Marks : 5 Wrong Marks : 1

Question Key Details :

Key	Value
Comprehension	MCQ

Find the correct statement/s.

- (A) Hardness of water is due to the presence of calcium and magnesium salt.
- (B) Permanent hardness of water can not be removed by boiling of water.
- (C) Lime can also be used to remove the hardness of water.
- (D) Hard water forms scum with soap.
- (E) Rain water is not always hard water.

Choose the correct answer from the options given below :

- (1) (A), (B), (C), (D) only
- (2) (A), (B), (C), (E) only
- (3) (A), (C), (D), (E) only
- (4) (A), (B), (D), (E) only

Options :

212807127721. 1

212807127722. 2

212807127723. 3

212807127724. 4

Question Number : 316 Question Id : 21280731931 Question Type : MCQ Option Shuffling : No Is Question Mandatory : No Calculator : None
Response Time : N.A Think Time : N.A Minimum Instruction Time : 0

Correct Marks : 5 Wrong Marks : 1

Question Key Details :

Key	Value
Comprehension	MCQ

सतत कथन ज्ञात करें।

- (A) जल की कठोरता कैल्शियम और मैग्नीशियम लवण के कारण होती है।
- (B) जल की स्थायी कठोरता को जल उबालकर दूर नहीं किया जा सकता है।
- (C) जल की कठोरता दूर करने में चूना भी प्रयुक्त किया जा सकता है।
- (D) कठोर जल साबुन के साथ झाग बनाता है।
- (E) वर्षा जल हमेशा कठोर जल नहीं होता है।

नीचे दिए गए विकल्पों में से सही उत्तर का चयन कीजिए :

- (1) केवल (A), (B), (C), (D)
- (2) केवल (A), (B), (C), (E)
- (3) केवल (A), (C), (D), (E)
- (4) केवल (A), (B), (D), (E)

Options :

212807127721. 1

212807127722. 2

212807127723. 3

212807127724. 4

Question Number : 317 Question Id : 21280731932 Question Type : MCQ Option Shuffling : No Is Question Mandatory : No Calculator : None
Response Time : N.A Think Time : N.A Minimum Instruction Time : 0

Correct Marks : 5 Wrong Marks : 1

Question Key Details :

Key	Value
Comprehension	MCQ

Which one of the following is secondary Air Pollution ?

- (1) NO_2
- (2) SO_2
- (3) Tropospheric ozone
- (4) CO

Options :

212807127725. 1

212807127726. 2

212807127727. 3

212807127728. 4

Question Number : 317 Question Id : 21280731932 Question Type : MCQ Option Shuffling : No Is Question Mandatory : No Calculator : None
Response Time : N.A Think Time : N.A Minimum Instruction Time : 0

Correct Marks : 5 Wrong Marks : 1

Question Key Details :

Key	Value
Comprehension	MCQ

निम्नलिखित में से कौन-सा द्वितीयक वायु प्रदूषक है?

- (1) NO₂
- (2) SO₂
- (3) क्षोपमंडलीय ओजोन
- (4) CO

Options :

212807127725. 1
212807127726. 2
212807127727. 3
212807127728. 4

Question Number : 318 Question Id : 21280731933 Question Type : MCQ Option Shuffling : No Is Question Mandatory : No Calculator : None
Response Time : N.A Think Time : N.A Minimum Instruction Time : 0

Correct Marks : 5 Wrong Marks : 1

Question Key Details :

Key	Value
Comprehension	MCQ

Which of the following soils have around 40% silt, 40% sand and 20% clay proportion of soil particles ?

- (1) Clayey soils
- (2) Loamy soils
- (3) Silty soils
- (4) Sandy soils

Options :

212807127729. 1
212807127730. 2
212807127731. 3
212807127732. 4

Question Number : 318 Question Id : 21280731933 Question Type : MCQ Option Shuffling : No Is Question Mandatory : No Calculator : None
Response Time : N.A Think Time : N.A Minimum Instruction Time : 0

Correct Marks : 5 Wrong Marks : 1

Question Key Details :

Key	Value
Comprehension	MCQ

निम्नलिखित में किस मिट्टी में मृदा कणों का लगभग 40% सिल्ट, 40% रेत और 20% क्ले (मृत्तिका) होता है?

- (1) दोमट मिट्टी
- (2) लोमी मिट्टी
- (3) सिल्ट मिट्टी
- (4) बालू मिट्टी

Options :

212807127729. 1
212807127730. 2
212807127731. 3
212807127732. 4

Question Number : 319 Question Id : 21280731934 Question Type : MCQ Option Shuffling : No Is Question Mandatory : No Calculator : None
Response Time : N.A Think Time : N.A Minimum Instruction Time : 0

Correct Marks : 5 Wrong Marks : 1

Question Key Details :

Key	Value
Comprehension	MCQ

Which one of the following factor does not affect the new economics of labour migration ?

- (1) Economic incentive
- (2) Excessive Labour Demand
- (3) Insufficient income
- (4) Social entities

Options :

212807127733. 1
212807127734. 2
212807127735. 3
212807127736. 4

Question Number : 319 Question Id : 21280731934 Question Type : MCQ Option Shuffling : No Is Question Mandatory : No Calculator : None
Response Time : N.A Think Time : N.A Minimum Instruction Time : 0

Correct Marks : 5 Wrong Marks : 1

Question Key Details :

Key	Value
Comprehension	MCQ

निम्नलिखित में से कौन-सा कारक श्रम प्रवासन की नई अर्थव्यवस्था को प्रभावित नहीं करता है?

- (1) आर्थिक प्रोत्साहन
- (2) अतिशय श्रम मांग
- (3) अपर्याप्त मांग
- (4) सामाजिक निकाय

Options :

212807127733. 1
212807127734. 2
212807127735. 3
212807127736. 4

Question Number : 320 Question Id : 21280731935 Question Type : MCQ Option Shuffling : No Is Question Mandatory : No Calculator : None
Response Time : N.A Think Time : N.A Minimum Instruction Time : 0

Correct Marks : 5 Wrong Marks : 1

Question Key Details :

Key	Value
Comprehension	MCQ

Which of the following is not a push factor for rural to urban migration ?

- (1) Poor Medical Infrastructure
- (2) Degraded quality of education
- (3) Pristine environment
- (4) Natural calamities

Options :

212807127737. 1
212807127738. 2
212807127739. 3
212807127740. 4

Question Number : 320 Question Id : 21280731935 Question Type : MCQ Option Shuffling : No Is Question Mandatory : No Calculator : None
Response Time : N.A Think Time : N.A Minimum Instruction Time : 0

Correct Marks : 5 Wrong Marks : 1

Question Key Details :

Key	Value
Comprehension	MCQ

निम्नलिखित में से कौन-सा ग्रामीण से शहरी प्रवासन के लिए उद्वेलनकारी (पुश) कारक नहीं है?

- (1) निम्नस्तरीय चिकित्सा अवसंरचना
- (2) खराब शिक्षा गुणवत्ता
- (3) प्राचीन पर्यावरण
- (4) प्राकृतिक आपदाएं

Options :

212807127737. 1
212807127738. 2
212807127739. 3
212807127740. 4

Question Number : 321 Question Id : 21280731936 Question Type : MCQ Option Shuffling : No Is Question Mandatory : No Calculator : None
Response Time : N.A Think Time : N.A Minimum Instruction Time : 0

Correct Marks : 5 Wrong Marks : 1

Question Key Details :

Key	Value
Comprehension	MCQ

Which of the following are pull factors for migration ?

- (A) Better job
- (B) Political stability
- (C) Flood
- (D) Peaceful Environment
- (E) Religious Instability

Choose the correct answer from the options given below :

- (1) (A), (C), (E) only
- (2) (B), (D), (E) only
- (3) (C), (D), (E) only
- (4) (A), (B), (D) only

Options :

212807127741. 1
212807127742. 2
212807127743. 3
212807127744. 4

Question Number : 321 Question Id : 21280731936 Question Type : MCQ Option Shuffling : No Is Question Mandatory : No Calculator : None
Response Time : N.A Think Time : N.A Minimum Instruction Time : 0

Correct Marks : 5 Wrong Marks : 1

Question Key Details :

Key	Value
Comprehension	MCQ

निम्नलिखित में से कौन-से प्रवासन के लिए आकर्षणकारी (पुल) कारक हैं?

- (A) बेहतर नौकरी
- (B) राजनीतिक स्थायित्व
- (C) बाढ़
- (D) शांतिपूर्ण माहौल
- (E) धार्मिक अस्थिरता

नीचे दिए गए विकल्पों में से सही उत्तर का चयन कीजिए :

- (1) केवल (A), (C), (E)
- (2) केवल (B), (D), (E)
- (3) केवल (C), (D), (E)
- (4) केवल (A), (B), (D)

Options :

- 212807127741. 1
- 212807127742. 2
- 212807127743. 3
- 212807127744. 4

Question Number : 322 Question Id : 21280731937 Question Type : MCQ Option Shuffling : No Is Question Mandatory : No Calculator : None Response Time : N.A Think Time : N.A Minimum Instruction Time : 0

Correct Marks : 5 Wrong Marks : 1

Question Key Details :

Key	Value
Comprehension	MCQ

For any development project it is expected to do a survey of its effect on the surrounding ecosystem. This process is known as :

- (1) Ecological Impact Assurance
- (2) Environmental Impact Assessment
- (3) Environmental Impact Assurance
- (4) Ecological Impact Assessment

Options :

- 212807127745. 1
- 212807127746. 2
- 212807127747. 3
- 212807127748. 4

Question Number : 322 Question Id : 21280731937 Question Type : MCQ Option Shuffling : No Is Question Mandatory : No Calculator : None Response Time : N.A Think Time : N.A Minimum Instruction Time : 0

Correct Marks : 5 Wrong Marks : 1

Question Key Details :

Key	Value
Comprehension	MCQ

किसी भी विकासात्मक परियोजना के इसके समीपवर्ती परिवेश पर प्रभाव का सर्वेक्षण किया जाना प्रत्याशित है। इस प्रक्रिया को का जाता है :

- (1) पारिस्थितिकी प्रभाव आश्वासन
- (2) पर्यावरणीय प्रभाव आकलन
- (3) पर्यावरणीय प्रभाव आश्वासन
- (4) पारिस्थितिकी प्रभाव आकलन

Options :

212807127745. 1
212807127746. 2
212807127747. 3
212807127748. 4

Question Number : 323 Question Id : 21280731938 Question Type : MCQ Option Shuffling : No Is Question Mandatory : No Calculator : None
Response Time : N.A Think Time : N.A Minimum Instruction Time : 0

Correct Marks : 5 Wrong Marks : 1

Question Key Details :

Key	Value
Comprehension	MCQ

Free trade between developing and developed nations :

- (1) Slowly increases migration
- (2) Reduces migration
- (3) Has no impact on migration
- (4) Rapidly increases migration

Options :

212807127749. 1
212807127750. 2
212807127751. 3
212807127752. 4

Question Number : 323 Question Id : 21280731938 Question Type : MCQ Option Shuffling : No Is Question Mandatory : No Calculator : None
Response Time : N.A Think Time : N.A Minimum Instruction Time : 0

Correct Marks : 5 Wrong Marks : 1

Question Key Details :

Key	Value
Comprehension	MCQ

विकासशील और विकसित देशों के बीच मुक्त व्यापार ::

- (1) धीर-धीरे प्रवासन बढ़ाता है
- (2) प्रवासन कम करता है
- (3) प्रवासन पर कोई प्रभाव नहीं होता है
- (4) तीव्रता से प्रवासन बढ़ाता है

Options :

212807127749. 1
212807127750. 2
212807127751. 3
212807127752. 4

Question Number : 324 Question Id : 21280731939 Question Type : MCQ Option Shuffling : No Is Question Mandatory : No Calculator : None
Response Time : N.A Think Time : N.A Minimum Instruction Time : 0

Correct Marks : 5 Wrong Marks : 1

Question Key Details :

Key	Value
-----	-------

Arrange the following in current sequence from first to last steps in sewage water treatment plant.

- (A) Sedimentation and filtration
- (B) Screening
- (C) Chemical disinfection
- (D) Biological treatment

Choose the correct answer from the options given below :

- (1) (A), (B), (D), (C)
- (2) (B), (A), (D), (C)
- (3) (B), (A), (C), (D)
- (4) (A), (B), (C), (D)

Options :

- 212807127753. 1
- 212807127754. 2
- 212807127755. 3
- 212807127756. 4

Question Number : 324 Question Id : 21280731939 Question Type : MCQ Option Shuffling : No Is Question Mandatory : No Calculator : None Response Time : N.A Think Time : N.A Minimum Instruction Time : 0

Correct Marks : 5 Wrong Marks : 1

Question Key Details :

Key	Value
Comprehension	MCQ

वाहित मल-जल उपचार संयंत्र में प्रथम से अंतिम सोपान तक निम्नलिखित को सही क्रम से व्यवस्थित करें।

- (A) अवसादीकरण और निस्पंदन
- (B) जाँच/परीक्षण
- (C) रासायनिक विसंक्रमण
- (D) जैविकीय उपचार

नीचे दिए गए विकल्पों में से सही उत्तर का चयन कीजिए :

- (1) (A), (B), (D), (C)
- (2) (B), (A), (D), (C)
- (3) (B), (A), (C), (D)
- (4) (A), (B), (C), (D)

Options :

- 212807127753. 1
- 212807127754. 2
- 212807127755. 3
- 212807127756. 4

Question Number : 325 Question Id : 21280731940 Question Type : MCQ Option Shuffling : No Is Question Mandatory : No Calculator : None Response Time : N.A Think Time : N.A Minimum Instruction Time : 0

Correct Marks : 5 Wrong Marks : 1

Question Key Details :

Key	Value
Comprehension	MCQ

Water storage practice have been 'Khuls' primarily practiced in the state of :

- (1) Jammu and Kashmir
- (2) Rajasthan
- (3) Himachal Pradesh
- (4) Maharashtra

Options :

212807127757. 1
212807127758. 2
212807127759. 3
212807127760. 4

Question Number : 325 Question Id : 21280731940 Question Type : MCQ Option Shuffling : No Is Question Mandatory : No Calculator : None
Response Time : N.A Think Time : N.A Minimum Instruction Time : 0

Correct Marks : 5 Wrong Marks : 1

Question Key Details :

Key	Value
Comprehension	MCQ

जल संग्रहण तकनीक 'कुहल' मुख्यतया किस राज्य में प्रचलित है?

- (1) जम्मू-कश्मीर
- (2) राजस्थान
- (3) हिमाचल प्रदेश
- (4) महाराष्ट्र

Options :

212807127757. 1
212807127758. 2
212807127759. 3
212807127760. 4

Question Number : 326 Question Id : 21280731941 Question Type : MCQ Option Shuffling : No Is Question Mandatory : No Calculator : None
Response Time : N.A Think Time : N.A Minimum Instruction Time : 0

Correct Marks : 5 Wrong Marks : 1

Question Key Details :

Key	Value
Comprehension	MCQ

Which of the following method is not adopted in green revolution to improve agricultural yield ?

- (1) use of advanced machinery
- (2) use of chemical fertilisers
- (3) use of organic fertilizers
- (4) use of insecticides

Options :

212807127761. 1
212807127762. 2
212807127763. 3
212807127764. 4

Question Number : 326 Question Id : 21280731941 Question Type : MCQ Option Shuffling : No Is Question Mandatory : No Calculator : None
Response Time : N.A Think Time : N.A Minimum Instruction Time : 0

Correct Marks : 5 Wrong Marks : 1

Question Key Details :

Key	Value
Comprehension	MCQ

हरित क्रांति में कृषि पैदावार बढ़ाने के लिए निम्नलिखित में से किसी विधि को नहीं अपनाया जाता है ?

- (1) उन्नत मशीनरी का प्रयोग
- (2) रासायनिक उर्वरकों का प्रयोग
- (3) जैविक उर्वरकों का प्रयोग
- (4) कीटनाशकों का प्रयोग

Options :

212807127761. 1
212807127762. 2
212807127763. 3
212807127764. 4

Question Number : 327 Question Id : 21280731942 Question Type : MCQ Option Shuffling : No Is Question Mandatory : No Calculator : None
Response Time : N.A Think Time : N.A Minimum Instruction Time : 0

Correct Marks : 5 Wrong Marks : 1

Question Key Details :

Key	Value
Comprehension	MCQ

_____ is a practise where 'livestock management' and cropping is done together.

- (1) Mixed cropping
- (2) Multiple cropping
- (3) Mixed cropping
- (4) Inter cropping

Options :

212807127765. 1
212807127766. 2
212807127767. 3
212807127768. 4

Question Number : 327 Question Id : 21280731942 Question Type : MCQ Option Shuffling : No Is Question Mandatory : No Calculator : None
Response Time : N.A Think Time : N.A Minimum Instruction Time : 0

Correct Marks : 5 Wrong Marks : 1

Question Key Details :

Key	Value
Comprehension	MCQ

_____ एक क्रियाविधि/प्रथा है जिसमें पशुधन प्रबंधन और शस्यन एक साथ किया जाता है ?

- (1) मिश्रित शस्यन
- (2) बहु शस्यन
- (3) मिश्रित खेती
- (4) अंतर्शस्यन

Options :

212807127765. 1
212807127766. 2
212807127767. 3
212807127768. 4

Question Number : 328 Question Id : 21280731943 Question Type : MCQ Option Shuffling : No Is Question Mandatory : No Calculator : None
Response Time : N.A Think Time : N.A Minimum Instruction Time : 0

Correct Marks : 5 Wrong Marks : 1

Question Key Details :

Key	Value
Comprehension	MCQ

Which of the following planting types come under succession planting ?

- (A) Planting a deep rooted crop with a shallow roots crop.
- (B) Planting two or more crops in succession.
- (C) Planting several varieties with different maturity dal
- (D) Growing two or more crops simultaneously
- (E) Planting a tall crop with a shorter crop that requires partial shade.

Choose the correct answer from the options given below :

- (1) (A), (B) and (C) only
- (2) (B), (C) and (D) only
- (3) (C), (D) and (E) only
- (4) (B), (C), (D) and (E) only

Options :

- 212807127769. 1
- 212807127770. 2
- 212807127771. 3
- 212807127772. 4

Question Number : 328 Question Id : 21280731943 Question Type : MCQ Option Shuffling : No Is Question Mandatory : No Calculator : None
Response Time : N.A Think Time : N.A Minimum Instruction Time : 0

Correct Marks : 5 Wrong Marks : 1

Question Key Details :

Key	Value
Comprehension	MCQ

निम्नलिखित में से कौन-सा रोपण प्रकार उत्तरोत्तर रोपण के अंतर्गत आता है ?

- (A) किसी गहरी जड़ वाली फसल को छिछली जड़ फसल के साथ रोपित करना।
- (B) दो या अधिक फसलों का उत्तरोत्तर रोपण करना।
- (C) विविध परिपक्वता अवधि कली किस्मों का रोपण करना।
- (D) एक साथ दो या अधिक फसलें उगाना।
- (E) लंबी फसल के साथ एक बौनी फसल की बुआई करना, जिसे आंशिक छाया की जरूरत होती है।

नीचे दिए गए विकल्पों में से सही उत्तर का चयन कीजिए :

- (1) केवल (A), (B) और (C)
- (2) केवल (B), (C) और (D)
- (3) केवल (C), (D) और (E)
- (4) केवल (B), (C), (D) और (E)

Options :

- 212807127769. 1
- 212807127770. 2
- 212807127771. 3
- 212807127772. 4

Question Number : 329 Question Id : 21280731944 Question Type : MCQ Option Shuffling : No Is Question Mandatory : No Calculator : None
Response Time : N.A Think Time : N.A Minimum Instruction Time : 0

Correct Marks : 5 Wrong Marks : 1

Question Key Details :

Key	Value
Comprehension	MCQ

Match List - I with List - II.

List - I

- (A) PGPR
(B) Cyanobacteria
(C) Biological Nitrogen Fixation
(D) Phosphate solubilizing bacteria

List - II

- (I) Bacillus sps, Nitrobacter
(II) Rhizobium, Azorhizobium
(III) Pseudomonas fluorescens
(IV) Anabaena, Nostoc

Choose the correct answer from the options given below :

- (1) (A)-(I), (B)-(II), (C)-(III), (D)-(IV)
(2) (A)-(II), (B)-(III), (C)-(IV), (D)-(I)
(3) (A)-(III), (B)-(IV), (C)-(II), (D)-(I)
(4) (A)-(IV), (B)-(III), (C)-(II), (D)-(I)

Options :

212807127773. 1
212807127774. 2
212807127775. 3
212807127776. 4

Question Number : 329 Question Id : 21280731944 Question Type : MCQ Option Shuffling : No Is Question Mandatory : No Calculator : None
Response Time : N.A Think Time : N.A Minimum Instruction Time : 0

Correct Marks : 5 Wrong Marks : 1

Question Key Details :

Key	Value
Comprehension	MCQ

सूची-I से सूची-II का मिलान कीजिए:

सूची-I

- (A) PGPR
(B) सायनो बैक्टीरिया
(C) जैविकीय नाइट्रोजन स्थिरीकरण
(D) फास्फेट घुलनशील बैक्टीरिया

सूची-II

- (I) बैसीलस एसपीएस, नाइट्रोबेक्टर
(II) राइजोबियम, एज़ोराइजोबियम
(III) स्यूडोमोमस फ्लुओरोसेन्स
(IV) एनाबिना, नोस्टोक

नीचे दिए गए विकल्पों में से सही उत्तर का चयन कीजिए :

- (1) (A)-(I), (B)-(II), (C)-(III), (D)-(IV)
(2) (A)-(II), (B)-(III), (C)-(IV), (D)-(I)
(3) (A)-(III), (B)-(IV), (C)-(II), (D)-(I)
(4) (A)-(IV), (B)-(III), (C)-(II), (D)-(I)

Options :

212807127773. 1
212807127774. 2
212807127775. 3
212807127776. 4

Question Number : 330 Question Id : 21280731945 Question Type : MCQ Option Shuffling : No Is Question Mandatory : No Calculator : None
Response Time : N.A Think Time : N.A Minimum Instruction Time : 0

Correct Marks : 5 Wrong Marks : 1

Question Key Details :

Key	Value
Comprehension	MCQ

Choose the incorrect statement regarding Green Revolution.

- (1) new seed varieties and irrigation techniques were developed
- (2) use of chemical fertilizers and pesticides was promoted
- (3) impact of food was minimized
- (4) water-saving irrigation techniques were developed

Options :

212807127777. 1
212807127778. 2
212807127779. 3
212807127780. 4

Question Number : 330 Question Id : 21280731945 Question Type : MCQ Option Shuffling : No Is Question Mandatory : No Calculator : None
Response Time : N.A Think Time : N.A Minimum Instruction Time : 0

Correct Marks : 5 Wrong Marks : 1

Question Key Details :

Key	Value
Comprehension	MCQ

हरित क्रांति के संबंध में असत्य कथन का चयन करें :

- (1) नई बीज किस्में और सिंचाई तकनीकें विकसित की गई थी
- (2) रासायनिक उर्वरकों और कीटनाशकों के उपयोग को बढ़ावा दिया गया
- (3) खाद्यान्न आयात कम किया था
- (4) जल दक्ष सिंचाई तकनीकें विकसित की गई थी

Options :

212807127777. 1
212807127778. 2
212807127779. 3
212807127780. 4

Question Number : 331 Question Id : 21280731946 Question Type : MCQ Option Shuffling : No Is Question Mandatory : No Calculator : None
Response Time : N.A Think Time : N.A Minimum Instruction Time : 0

Correct Marks : 5 Wrong Marks : 1

Question Key Details :

Key	Value
Comprehension	MCQ

Which one of the following is in exhaustible resources ?

- (A) Sunlight
- (B) Wildlife
- (C) Minerals
- (D) Water
- (E) Wind

Choose the correct answer from the options given below :

- (1) (A), (C), (D) only
- (2) (B), (D), (E) only
- (3) (C), (D), (E) only
- (4) (A), (D), (E) only

Options :

212807127781. 1
212807127782. 2
212807127783. 3
212807127784. 4

Question Number : 331 Question Id : 21280731946 Question Type : MCQ Option Shuffling : No Is Question Mandatory : No Calculator : None
Response Time : N.A Think Time : N.A Minimum Instruction Time : 0

Correct Marks : 5 Wrong Marks : 1

Question Key Details :

Key	Value
Comprehension	MCQ

निम्नलिखित में से कौन-से असमापनीय संसाधन हैं ?

- (A) सौर ऊर्जा
- (B) वन्य जीव
- (C) खनिज
- (D) जल
- (E) वायु

नीचे दिए गए विकल्पों में से सही उत्तर का चयन कीजिए :

- (1) केवल (A), (C), (D)
- (2) केवल (B), (D), (E)
- (3) केवल (C), (D), (E)
- (4) केवल (A), (D), (E)

Options :

- 212807127781. 1
- 212807127782. 2
- 212807127783. 3
- 212807127784. 4

Question Number : 332 Question Id : 21280731947 Question Type : MCQ Option Shuffling : No Is Question Mandatory : No Calculator : None
Response Time : N.A Think Time : N.A Minimum Instruction Time : 0

Correct Marks : 5 Wrong Marks : 1

Question Key Details :

Key	Value
Comprehension	MCQ

GDP of any country is the total of its net domestic product and :

- (1) Consumption of capital in the production process
- (2) Consumption of capital in the informal economy
- (3) Earning on foreign exchange in the domestic country
- (4) Subsidies on the consumption of Goods and Services

Options :

- 212807127785. 1
- 212807127786. 2
- 212807127787. 3
- 212807127788. 4

Question Number : 332 Question Id : 21280731947 Question Type : MCQ Option Shuffling : No Is Question Mandatory : No Calculator : None
Response Time : N.A Think Time : N.A Minimum Instruction Time : 0

Correct Marks : 5 Wrong Marks : 1

Question Key Details :

Key	Value
Comprehension	MCQ

किसी राष्ट्र की GDP इसके कुल निवल घरेलू उत्पाद और _____ का योग है।

- (1) उत्पादन प्रक्रिया में पूंजी खपत
- (2) औपचारिक अर्थव्यवस्था में पूंजी खपत
- (3) घरेलू मुद्रा में विदेशी विनिमय अर्जन
- (4) वस्तुओं और सेवाओं की खपत पर सब्सिडियाँ

Options :

212807127785. 1
212807127786. 2
212807127787. 3
212807127788. 4

Question Number : 333 Question Id : 21280731948 Question Type : MCQ Option Shuffling : No Is Question Mandatory : No Calculator : None
Response Time : N.A Think Time : N.A Minimum Instruction Time : 0

Correct Marks : 5 Wrong Marks : 1

Question Key Details :

Key	Value
Comprehension	MCQ

Which of the following does not cause ozone depletion ?

- (1) Halons
- (2) CFCs
- (3) HFCs
- (4) HCFCs

Options :

212807127789. 1
212807127790. 2
212807127791. 3
212807127792. 4

Question Number : 333 Question Id : 21280731948 Question Type : MCQ Option Shuffling : No Is Question Mandatory : No Calculator : None
Response Time : N.A Think Time : N.A Minimum Instruction Time : 0

Correct Marks : 5 Wrong Marks : 1

Question Key Details :

Key	Value
Comprehension	MCQ

निम्नलिखित में से कौन-सा ओज़ोन अपक्षय नहीं करता है ?

- (1) हैलोन
- (2) CFCs
- (3) HFCs
- (4) HCFCs

Options :

212807127789. 1
212807127790. 2
212807127791. 3
212807127792. 4

Question Number : 334 Question Id : 21280731949 Question Type : MCQ Option Shuffling : No Is Question Mandatory : No Calculator : None
Response Time : N.A Think Time : N.A Minimum Instruction Time : 0

Correct Marks : 5 Wrong Marks : 1

Question Key Details :

Key	Value
Comprehension	MCQ

Match List - I with List - II.

List - I	List - II
Protocol Convention	Year
(A) Kyoto protocol	(I) 1998
(B) Basel convention	(II) 1987
(C) Montreal protocol	(III) 1997
(D) Bamako convention	(IV) 1989

Choose the correct answer from the options given below :

- (1) (A)-(II), (B)-(IV), (C)-(I), (D)-(III)
- (2) (A)-(IV), (B)-(I), (C)-(II), (D)-(III)
- (3) (A)-(III), (B)-(IV), (C)-(II), (D)-(I)
- (4) (A)-(I), (B)-(II), (C)-(III), (D)-(IV)

Options :

212807127793. 1
212807127794. 2
212807127795. 3
212807127796. 4

Question Number : 334 Question Id : 21280731949 Question Type : MCQ Option Shuffling : No Is Question Mandatory : No Calculator : None
Response Time : N.A Think Time : N.A Minimum Instruction Time : 0
Correct Marks : 5 Wrong Marks : 1

Question Key Details :

Key	Value
Comprehension	MCQ

सूची-I से सूची-II का मिलान कीजिए:

सूची-I	सूची-II
प्रोटोकॉल/अभिसमय	वर्ष
(A) क्योटो प्रोटोकॉल	(I) 1998
(B) बेसल अभिसमय	(II) 1987
(C) मॉन्ट्रियल प्रोटोकॉल	(III) 1997
(D) बोमाको अभिसमय	(IV) 1989

नीचे दिए गए विकल्पों में से सही उत्तर का चयन कीजिए :

- (1) (A)-(II), (B)-(IV), (C)-(I), (D)-(III)
- (2) (A)-(IV), (B)-(I), (C)-(II), (D)-(III)
- (3) (A)-(III), (B)-(IV), (C)-(II), (D)-(I)
- (4) (A)-(I), (B)-(II), (C)-(III), (D)-(IV)

Options :

212807127793. 1
212807127794. 2
212807127795. 3
212807127796. 4

Question Number : 335 Question Id : 21280731950 Question Type : MCQ Option Shuffling : No Is Question Mandatory : No Calculator : None
Response Time : N.A Think Time : N.A Minimum Instruction Time : 0
Correct Marks : 5 Wrong Marks : 1

Question Key Details :

Key	Value
Comprehension	MCQ

Which of the following gases absorb infrared radiation emitted from the Earth's surface ?

- (A) SO₂
- (B) N₂O
- (C) NO₂
- (D) CO₂
- (E) H₂O vapor

Choose the correct answer from the options given below :

- (1) (B) and (D) only
- (2) (B), (C) and (E) only
- (3) (B), (D) and (E) only
- (4) (A), (B) and (D) only

Options :

- 212807127797. 1
- 212807127798. 2
- 212807127799. 3
- 212807127800. 4

Question Number : 335 Question Id : 21280731950 Question Type : MCQ Option Shuffling : No Is Question Mandatory : No Calculator : None Response Time : N.A Think Time : N.A Minimum Instruction Time : 0

Correct Marks : 5 Wrong Marks : 1

Question Key Details :

Key	Value
Comprehension	MCQ

निम्नलिखित में से कौन-सी गैसें पृथ्वी की सतह द्वारा उत्सर्जित अवरक्त विकिरणों को अवशोषित करती हैं ?

- (A) SO₂
- (B) N₂O
- (C) NO₂
- (D) CO₂
- (E) H₂O वाष्प

नीचे दिए गए विकल्पों में से सही उत्तर का चयन कीजिए :

- (1) केवल (B) और (D)
- (2) केवल (B), (C) और (E)
- (3) केवल (B), (D) और (E)
- (4) केवल (A), (B) और (D)

Options :

- 212807127797. 1
- 212807127798. 2
- 212807127799. 3
- 212807127800. 4

Question Number : 336 Question Id : 21280731951 Question Type : MCQ Option Shuffling : No Is Question Mandatory : No Calculator : None Response Time : N.A Think Time : N.A Minimum Instruction Time : 0

Correct Marks : 5 Wrong Marks : 1

Question Key Details :

Key	Value
Comprehension	MCQ

Match List - I with List - II.

- | List - I | List - II |
|------------------|----------------------------|
| (A) Troposphere | (I) Ozone depletion |
| (B) Stratosphere | (II) Aurora |
| (C) Mesosphere | (III) Global warming |
| (D) Thermosphere | (IV) Artificial satellites |

Choose the correct answer from the options given below :

- (1) (A)-(III), (B)-(I), (C)-(II), (D)-(IV)
- (2) (A)-(III), (B)-(I), (C)-(IV), (D)-(II)
- (3) (A)-(I), (B)-(II), (C)-(IV), (D)-(III)
- (4) (A)-(III), (B)-(II), (C)-(I), (D)-(IV)

Options :

212807127801. 1
212807127802. 2
212807127803. 3
212807127804. 4

Question Number : 336 Question Id : 21280731951 Question Type : MCQ Option Shuffling : No Is Question Mandatory : No Calculator : None Response Time : N.A Think Time : N.A Minimum Instruction Time : 0

Correct Marks : 5 Wrong Marks : 1

Question Key Details :

Key	Value
Comprehension	MCQ

सूची-I से सूची-II का मिलान कीजिए:

- | सूची-I | सूची-II |
|----------------|---------------------|
| (A) क्षोभमंडल | (I) ओजोन अपक्षय |
| (B) समताप मंडल | (II) औरेरा |
| (C) मध्यमंडल | (III) वैश्विक तापन |
| (D) बाह्य मंडल | (IV) कृत्रिम उपग्रह |

नीचे दिए गए विकल्पों में से सही उत्तर का चयन कीजिए :

- (1) (A)-(III), (B)-(I), (C)-(II), (D)-(IV)
- (2) (A)-(III), (B)-(I), (C)-(IV), (D)-(II)
- (3) (A)-(I), (B)-(II), (C)-(IV), (D)-(III)
- (4) (A)-(III), (B)-(II), (C)-(I), (D)-(IV)

Options :

212807127801. 1
212807127802. 2
212807127803. 3
212807127804. 4

Question Number : 337 Question Id : 21280731952 Question Type : MCQ Option Shuffling : No Is Question Mandatory : No Calculator : None Response Time : N.A Think Time : N.A Minimum Instruction Time : 0

Correct Marks : 5 Wrong Marks : 1

Question Key Details :

Key	Value
Comprehension	MCQ

Which of the following is **not** true about rainforests ?

- (1) Provides modern medicines
- (2) Have food crops
- (3) Contribute in increasing global warming
- (4) Also known as 'lungs of planet'

Options :

212807127805. 1
212807127806. 2
212807127807. 3
212807127808. 4

Question Number : 337 Question Id : 21280731952 Question Type : MCQ Option Shuffling : No Is Question Mandatory : No Calculator : None
Response Time : N.A Think Time : N.A Minimum Instruction Time : 0

Correct Marks : 5 Wrong Marks : 1

Question Key Details :

Key	Value
Comprehension	MCQ

वर्षा वनों के बारे में निम्नलिखित में से कौन-सा सत्य नहीं है ?

- (1) आधुनिक औषधि प्रदान करते हैं
- (2) खाद्यान्न फसलें प्रदान करते हैं
- (3) वैश्विक तापन बढ़ाते हैं
- (4) पृथ्वी के फेफड़ों के रूप में भी जाने जाते हैं

Options :

212807127805. 1
212807127806. 2
212807127807. 3
212807127808. 4

Question Number : 338 Question Id : 21280731953 Question Type : MCQ Option Shuffling : No Is Question Mandatory : No Calculator : None
Response Time : N.A Think Time : N.A Minimum Instruction Time : 0

Correct Marks : 5 Wrong Marks : 1

Question Key Details :

Key	Value
Comprehension	MCQ

Identify the correct sequence (increasing order) of Global Warming Potential of mentioned.

- (A) Carbon dioxide
- (B) Chlorofluoro carbon
- (C) Water vapour
- (D) Hydroflorocarbon

Choose the **correct** answer from the options given below :

- (1) (C), (A), (B), (D)
- (2) (A), (C), (B), (D)
- (3) (C), (A), (D), (B)
- (4) (A), (C), (D), (B)

Options :

212807127809. 1
212807127810. 2
212807127811. 3
212807127812. 4

Question Number : 338 Question Id : 21280731953 Question Type : MCQ Option Shuffling : No Is Question Mandatory : No Calculator : None Response Time : N.A Think Time : N.A Minimum Instruction Time : 0

Correct Marks : 5 Wrong Marks : 1

Question Key Details :

Key	Value
Comprehension	MCQ

निम्नलिखित की वैश्विक तापन संभाव्यता (बढ़ते क्रम) के सही क्रम की पहचान करें।

- (A) कार्बन डाई ऑक्साइड
- (B) क्लोरो फ्लोरो कार्बन
- (C) जल वाष्प
- (D) हाइड्रोफ्लोरो कार्बन

नीचे दिए गए विकल्पों में से सही उत्तर का चयन कीजिए :

- (1) (C), (A), (B), (D)
- (2) (A), (C), (B), (D)
- (3) (C), (A), (D), (B)
- (4) (A), (C), (D), (B)

Options :

- 212807127809. 1
- 212807127810. 2
- 212807127811. 3
- 212807127812. 4

Question Number : 339 Question Id : 21280731954 Question Type : MCQ Option Shuffling : No Is Question Mandatory : No Calculator : None Response Time : N.A Think Time : N.A Minimum Instruction Time : 0

Correct Marks : 5 Wrong Marks : 1

Question Key Details :

Key	Value
Comprehension	MCQ

TRIPS agreement is administered by which of the following organisation ?

- (1) WHO
- (2) OECD
- (3) WMO
- (4) WTO

Options :

- 212807127813. 1
- 212807127814. 2
- 212807127815. 3
- 212807127816. 4

Question Number : 339 Question Id : 21280731954 Question Type : MCQ Option Shuffling : No Is Question Mandatory : No Calculator : None Response Time : N.A Think Time : N.A Minimum Instruction Time : 0

Correct Marks : 5 Wrong Marks : 1

Question Key Details :

Key	Value
Comprehension	MCQ

निम्नलिखित में से किसके द्वारा ट्रिप्स (TRIPS) समझौता प्रशासित किया जाता है ?

- (1) WHO
- (2) OECD
- (3) WMO
- (4) WTO

Options :

212807127813. 1
212807127814. 2
212807127815. 3
212807127816. 4

Question Number : 340 Question Id : 21280731955 Question Type : MCQ Option Shuffling : No Is Question Mandatory : No Calculator : None
Response Time : N.A Think Time : N.A Minimum Instruction Time : 0

Correct Marks : 5 Wrong Marks : 1

Question Key Details :

Key	Value
Comprehension	MCQ

Which convention is associated with controlling international toxic waste trade ?

- (1) Stockholm convention
- (2) Hong kong convention
- (3) Bonn convention
- (4) Basel convention

Options :

212807127817. 1
212807127818. 2
212807127819. 3
212807127820. 4

Question Number : 340 Question Id : 21280731955 Question Type : MCQ Option Shuffling : No Is Question Mandatory : No Calculator : None
Response Time : N.A Think Time : N.A Minimum Instruction Time : 0

Correct Marks : 5 Wrong Marks : 1

Question Key Details :

Key	Value
Comprehension	MCQ

अंतर्राष्ट्रीय विषाक्त अपशिष्ट व्यापार से संबद्ध अभिसमय कौन-सा है ?

- (1) स्टॉकहोम अभिसमय
- (2) हांगकांग अभिसमय
- (3) बॉन अभिसमय
- (4) बेसल अभिसमय

Options :

212807127817. 1
212807127818. 2
212807127819. 3
212807127820. 4

Sub-Section Number : 2
Sub-Section Id : 2128072500
Question Shuffling Allowed : No
Is Section Default? : null

Question Number : 341 Question Id : 21280731956 Question Type : MCQ Option Shuffling : No Is Question Mandatory : No Calculator : None
Response Time : N.A Think Time : N.A Minimum Instruction Time : 0

Correct Marks : 5 Wrong Marks : 1

Question Key Details :

Key	Value
Comprehension	Compl

Lakes are freshwater ecosystems that may be natural or more frequently, artificially created by the construction of dams and tanks. Damming rivers alters a flowing water ecosystem to a still water ecosystem. This is usually developed for irrigation, or for water storage for urban or industrial use and hydroelectric power generation. There are several types of lakes - oligotrophic, dystrophic, eutrophic, endemic, volcanic, meromictic and artificial. Their biodiversity includes algae, which derives energy from the sun. This is transferred to microscopic animals which feed on the algae. Herbivorous fish, which in turn are preyed upon by larger carnivorous fish. Some specialised fish, such as catfish, feed on the detritus on the muddy bed of the lake; they are called *bottom feeders* or *bottom dwellers*. Fisherfolk depend heavily on this freshwater ecosystem, and farmers use it for water for their fields.

Sunlight penetrates the water surface of shallow parts of a lake ecosystem used by the aquatic plants. From the aquatic plants, energy is transferred to herbivorous animals and carnivores that live in water. These animals excrete waste products, which settle at the bottom of the lake and are broken down by small animals such as molluscs and worms that live in the mud in the lake bed. This acts as the nutrient material used by aquatic plants for their growth. During this process plants use carbon from CO₂ for their growth and release oxygen. This oxygen is then used by aquatic animals, which filter water through their respiratory system.

The energy transfer from lower trophic level to higher trophic level in a ecological food chain follows the :

- (1) 10% low
- (2) 90% low
- (3) 50% low
- (4) 70% low

Options :

- 212807127821. 1
- 212807127822. 2
- 212807127823. 3
- 212807127824. 4

Question Number : 341 Question Id : 21280731956 Question Type : MCQ Option Shuffling : No Is Question Mandatory : No Calculator : None Response Time : N.A Think Time : N.A Minimum Instruction Time : 0

Correct Marks : 5 Wrong Marks : 1

Question Key Details :

Key	Value
Comprehension	Comp1

निम्नलिखित पैराग्राफ को पढ़ें और प्रश्न का उत्तर दीजिए

झीलें स्वच्छ जल पारितंत्र हैं जो प्राकृतिक या बहुधा बांधों और टैंक निर्माण द्वारा कृत्रिम रूप से निर्मित होती हैं। नदी पर बांध बनाने से प्रवाहित जल पारितंत्र, स्थिर जल पारितंत्र में बदल जाता है। यह सामान्यतया सिंचाई, या शहरी और औद्योगिक उपयोग तथा जलविद्युत उत्पादन के लिए विकसित किया जाता है। झीलें कई प्रकार की होती हैं, ओलिगो ट्रोपिक, डायसट्रोपिक, यूट्रोपिक, इन्डेमिक, वोल्केनिक, मेरोमिक्टिक और कृत्रिम। इनकी जैवविविधता में शैवाल सम्मिलित हैं जो सूर्य से ऊर्जा प्राप्त करते हैं। यह शैवाल का उपयोग करने वाले सूक्ष्मजीवों को हस्तांतरित हो जाती है। सर्वभक्षी मछलियाँ, शैवाल और जलीय खरपतवार पर निर्भर होती हैं। घोंघे जैसे छोटे जीव सर्वभक्षी मछलियों द्वारा खाये जाते हैं जो बदले में बड़ी मछलियों द्वारा खाई जाती हैं। Some specialised fish, such as catfish, feed on the detritus on the muddy bed of the lake; they are called *bottom feeders* or *bottom dwellers*. मछुआरे इस स्वच्छ जल पारितंत्र पर निर्भर हैं और किसान इस जल का उपयोग अपने खेतों में करते हैं।

सूर्य ऊर्जा सतह जल को बंधित करती है जिसका उपयोग जलीय पादपों द्वारा किया जाता है। जलीय पादपों से ऊर्जा सर्वभक्षी पशुओं और जल में रहने वाले सर्वहारियों तक हस्तांतरित होती है। यह पशु अपशिष्ट उत्सर्जित करते हैं जो झील के पेंदे में बैठ जाते हैं जहाँ पर झील के पेंदे में रहने वाले मोलस्का और कीड़े जैसे छोटे जीवों द्वारा इनका अपघटन किया जाता है। यह जलीय पादपों द्वारा पोषक के रूप में प्रयुक्त होता है। इस प्रक्रिया में पादप अपनी वृद्धि के लिए CO₂ से कार्बन का उपयोग करते हैं और ऑक्सीजन निर्मुक्त करते हैं? यह ऑक्सीजन जलीय पादपों द्वारा प्रयुक्त होती है। जो अपने श्वसनी तंत्र से जल निस्पंदन करते हैं।

निम्न ट्राॅपिक स्तर से उच्च स्तर ट्राॅपिक स्तर की ओर किसी पारिस्थितिकी खाद्य श्रृंखला में ऊर्जा प्रवाह किस नियम का पालन करता है?

- (1) 10% नियम
- (2) 90% नियम
- (3) 50% नियम
- (4) 70% नियम

Options :

212807127821. 1
212807127822. 2
212807127823. 3
212807127824. 4

Question Number : 342 Question Id : 21280731957 Question Type : MCQ Option Shuffling : No Is Question Mandatory : No Calculator : None Response Time : N.A Think Time : N.A Minimum Instruction Time : 0

Correct Marks : 5 Wrong Marks : 1

Question Key Details :

Key	Value
Comprehension	Comp1

Lakes are freshwater ecosystems that may be natural or more frequently, artificially created by the construction of dams and tanks. Damming rivers alters a flowing water ecosystem to a still water ecosystem. This is usually developed for irrigation, or for water storage for urban or industrial use and hydroelectric power generation. There are several types of lakes - oligotrophic, dystrophic, eutrophic, endemic, volcanic, meromictic and artificial. Their biodiversity includes algae, which derives energy from the sun. This is transferred to microscopic animals which feed on the algae. Herbivorous fish, which in turn are preyed upon by larger carnivorous fish. Some specialised fish, such as catfish, feed on the detritus on the muddy bed of the lake; they are called *bottom feeders* or *bottom dwellers*. Fisherfolk depend heavily on this freshwater ecosystem, and farmers use it for water for their fields.

Sunlight penetrates the water surface of shallow parts of a lake ecosystem used by the aquatic plants. From the aquatic plants, energy is transferred to herbivorous animals and carnivores that live in water. These animals excrete waste products, which settle at the bottom of the lake and are broken down by small animals such as molluscs and worms that live in the mud in the lake bed. This acts as the nutrient material used by aquatic plants for their growth. During this process plants use carbon from CO₂ for their growth and release oxygen. This oxygen is then used by aquatic animals, which filter water through their respiratory system.

A lake having relatively clean water and very optimum biological productivity is referred to as :

- (1) Eutrophic
- (2) Dystrophic
- (3) Oligotrophic
- (4) Mesotrophic

Options :

- 212807127825. 1
- 212807127826. 2
- 212807127827. 3
- 212807127828. 4

Question Number : 342 Question Id : 21280731957 Question Type : MCQ Option Shuffling : No Is Question Mandatory : No Calculator : None
Response Time : N.A Think Time : N.A Minimum Instruction Time : 0

Correct Marks : 5 Wrong Marks : 1

Question Key Details :

Key	Value
Comprehension	Compl

निम्नलिखित पैराग्राफ को पढ़ें और प्रश्न का उत्तर दीजिए

झीलें स्वच्छ जल पारितंत्र हैं जो प्राकृतिक या बहुधा बांधों और टैंक निर्माण द्वारा कृत्रिम रूप से निर्मित होती हैं। नदी पर बांध बनाने से प्रवाहित जल पारितंत्र, स्थिर जल पारितंत्र में बदल जाता है। यह सामान्यतया सिंचाई, या शहरी और औद्योगिक उपयोग तथा जलविद्युत उत्पादन के लिए विकसित किया जाता है। झीलें कई प्रकार की होती हैं, ओलिगो ट्रोपिक, डायसट्रोपिक, यूट्रोपिक, इन्डेमिक, वोल्केनिक, मेरोमिक्टिक और कृत्रिम। इनकी जैवविविधता में शैवाल सम्मिलित हैं जो सूर्य से ऊर्जा प्राप्त करते हैं। यह शैवाल का उपयोग करने वाले सूक्ष्मजीवों को हस्तांतरित हो जाती है। सर्वभक्षी मछलियाँ, शैवाल और जलीय खरपतवार पर निर्भर होती हैं। घोंघे जैसे छोटे जीव सर्वभक्षी मछलियों द्वारा खाये जाते हैं जो बदले में बड़ी मछलियों द्वारा खाई जाती हैं। Some specialised fish, such as catfish, feed on the detritus on the muddy bed of the lake; they are called *bottom feeders* or *bottom dwellers*. मछुआरे इस स्वच्छ जल पारितंत्र पर निर्भर हैं और किसान इस जल का उपयोग अपने खेतों में करते हैं।

सूर्य ऊर्जा सतह जल को बंधित करती है जिसका उपयोग जलीय पादपों द्वारा किया जाता है। जलीय पादपों से ऊर्जा सर्वभक्षी पशुओं और जल में रहने वाले सर्वहारियों तक हस्तांतरित होती है। यह पशु अपशिष्ट उत्सर्जित करते हैं जो झील के पेंदे में बैठ जाते हैं जहाँ पर झील के पेंदे में रहने वाले मोलस्का और कीड़े जैसे छोटे जीवों द्वारा इनका अपघटन किया जाता है। यह जलीय पादपों द्वारा पोषक के रूप में प्रयुक्त होता है। इस प्रक्रिया में पादप अपनी वृद्धि के लिए CO₂ से कार्बन का उपयोग करते हैं और ऑक्सीजन निर्मुक्त करते हैं? यह ऑक्सीजन जलीय पादपों द्वारा प्रयुक्त होती है। जो अपने श्वसनी तंत्र से जल निस्पंदन करते हैं।

अपेक्षाकृत स्वच्छ जल और बहुत इष्टतम जैविकीय उत्पादकता वाली झील को क्या कहा जाता है?

- (1) यूट्रोपिक
- (2) डायफिरिक
- (3) ओलिगोट्रोपिक
- (4) मेसोट्रोपिक

Options :

212807127825. 1
212807127826. 2
212807127827. 3
212807127828. 4

Question Number : 343 Question Id : 21280731958 Question Type : MCQ Option Shuffling : No Is Question Mandatory : No Calculator : None
Response Time : N.A Think Time : N.A Minimum Instruction Time : 0

Correct Marks : 5 Wrong Marks : 1

Question Key Details :

Key	Value
Comprehension	Compl

Lakes are freshwater ecosystems that may be natural or more frequently, artificially created by the construction of dams and tanks. Damming rivers alters a flowing water ecosystem to a still water ecosystem. This is usually developed for irrigation, or for water storage for urban or industrial use and hydroelectric power generation. There are several types of lakes - oligotrophic, dystrophic, eutrophic, endemic, volcanic, meromictic and artificial. Their biodiversity includes algae, which derives energy from the sun. This is transferred to microscopic animals which feed on the algae. Herbivorous fish, which in turn are preyed upon by larger carnivorous fish. Some specialised fish, such as catfish, feed on the detritus on the muddy bed of the lake; they are called *bottom feeders* or *bottom dwellers*. Fisherfolk depend heavily on this freshwater ecosystem, and farmers use it for water for their fields.

Sunlight penetrates the water surface of shallow parts of a lake ecosystem used by the aquatic plants. From the aquatic plants, energy is transferred to herbivorous animals and carnivores that live in water. These animals excrete waste products, which settle at the bottom of the lake and are broken down by small animals such as molluscs and worms that live in the mud in the lake bed. This acts as the nutrient material used by aquatic plants for their growth. During this process plants use carbon from CO₂ for their growth and release oxygen. This oxygen is then used by aquatic animals, which filter water through their respiratory system.

Highest biochemical oxygen demand in the lake is observed in :

- (1) surface water
- (2) euphotic zone
- (3) littoral zone
- (4) benthic zone

Options :

- 212807127829. 1
- 212807127830. 2
- 212807127831. 3
- 212807127832. 4

Question Number : 343 Question Id : 21280731958 Question Type : MCQ Option Shuffling : No Is Question Mandatory : No Calculator : None
Response Time : N.A Think Time : N.A Minimum Instruction Time : 0

Correct Marks : 5 Wrong Marks : 1

Question Key Details :

Key	Value
Comprehension	Comp1

निम्नलिखित पैराग्राफ को पढ़ें और प्रश्न का उत्तर दीजिए

झीलें स्वच्छ जल पारितंत्र हैं जो प्राकृतिक या बहुधा बांधों और टैंक निर्माण द्वारा कृत्रिम रूप से निर्मित होती हैं। नदी पर बांध बनाने से प्रवाहित जल पारितंत्र, स्थिर जल पारितंत्र में बदल जाता है। यह सामान्यतया सिंचाई, या शहरी और औद्योगिक उपयोग तथा जलविद्युत उत्पादन के लिए विकसित किया जाता है। झीलें कई प्रकार की होती हैं, ओलिगो ट्रोपिक, डायसट्रोपिक, यूट्रोपिक, इन्डेमिक, वोल्केनिक, मेरोमिक्टिक और कृत्रिम। इनकी जैवविविधता में शैवाल सम्मिलित हैं जो सूर्य से ऊर्जा प्राप्त करते हैं। यह शैवाल का उपयोग करने वाले सूक्ष्मजीवों को हस्तांतरित हो जाती है। सर्वभक्षी मछलियाँ, शैवाल और जलीय खरपतवार पर निर्भर होती हैं। घोंघे जैसे छोटे जीव सर्वभक्षी मछलियों द्वारा खाये जाते हैं जो बदले में बड़ी मछलियों द्वारा खाई जाती हैं। Some specialised fish, such as catfish, feed on the detritus on the muddy bed of the lake; they are called *bottom feeders* or *bottom dwellers*. मछुआरे इस स्वच्छ जल पारितंत्र पर निर्भर हैं और किसान इस जल का उपयोग अपने खेतों में करते हैं।

सूर्य ऊर्जा सतह जल को बंधित करती है जिसका उपयोग जलीय पादपों द्वारा किया जाता है। जलीय पादपों से ऊर्जा सर्वभक्षी पशुओं और जल में रहने वाले सर्वहारियों तक हस्तांतरित होती है। यह पशु अपशिष्ट उत्सर्जित करते हैं जो झील के पेंदे में बैठ जाते हैं जहाँ पर झील के पेंदे में रहने वाले मोलस्का और कीड़े जैसे छोटे जीवों द्वारा इनका अपघटन किया जाता है। यह जलीय पादपों द्वारा पोषक के रूप में प्रयुक्त होता है। इस प्रक्रिया में पादप अपनी वृद्धि के लिए CO₂ से कार्बन का उपयोग करते हैं और ऑक्सीजन निर्मुक्त करते हैं? यह ऑक्सीजन जलीय पादपों द्वारा प्रयुक्त होती है। जो अपने श्वसनी तंत्र से जल निस्पंदन करते हैं।

किसी झील में उच्चतम जैव रासायनिक ऑक्सीजन मांग कहाँ देखी जाती है?

- (1) सतह जल
- (2) यूफोटिक क्षेत्र
- (3) लिटोरल क्षेत्र
- (4) बेन्थिक क्षेत्र

Options :

212807127829. 1
212807127830. 2
212807127831. 3
212807127832. 4

Question Number : 344 Question Id : 21280731959 Question Type : MCQ Option Shuffling : No Is Question Mandatory : No Calculator : None
Response Time : N.A Think Time : N.A Minimum Instruction Time : 0

Correct Marks : 5 Wrong Marks : 1

Question Key Details :

Key	Value
Comprehension	Compl

Lakes are freshwater ecosystems that may be natural or more frequently, artificially created by the construction of dams and tanks. Damming rivers alters a flowing water ecosystem to a still water ecosystem. This is usually developed for irrigation, or for water storage for urban or industrial use and hydroelectric power generation. There are several types of lakes - oligotrophic, dystrophic, eutrophic, endemic, volcanic, meromictic and artificial. Their biodiversity includes algae, which derives energy from the sun. This is transferred to microscopic animals which feed on the algae. Herbivorous fish, which in turn are preyed upon by larger carnivorous fish. Some specialised fish, such as catfish, feed on the detritus on the muddy bed of the lake; they are called *bottom feeders* or *bottom dwellers*. Fisherfolk depend heavily on this freshwater ecosystem, and farmers use it for water for their fields.

Sunlight penetrates the water surface of shallow parts of a lake ecosystem used by the aquatic plants. From the aquatic plants, energy is transferred to herbivorous animals and carnivores that live in water. These animals excrete waste products, which settle at the bottom of the lake and are broken down by small animals such as molluscs and worms that live in the mud in the lake bed. This acts as the nutrient material used by aquatic plants for their growth. During this process plants use carbon from CO₂ for their growth and release oxygen. This oxygen is then used by aquatic animals, which filter water through their respiratory system.

Which of the following does not act as source of nutrients in a lake ?

- (1) Agricultural runoff
- (2) Sewage waste
- (3) Industrial effluents
- (4) animal excreta

Options :

- 212807127833. 1
- 212807127834. 2
- 212807127835. 3
- 212807127836. 4

Question Number : 344 Question Id : 21280731959 Question Type : MCQ Option Shuffling : No Is Question Mandatory : No Calculator : None
Response Time : N.A Think Time : N.A Minimum Instruction Time : 0

Correct Marks : 5 Wrong Marks : 1

Question Key Details :

Key	Value
Comprehension	Compl

निम्नलिखित पैराग्राफ को पढ़ें और प्रश्न का उत्तर दीजिए

झीलें स्वच्छ जल पारितंत्र हैं जो प्राकृतिक या बहुधा बांधों और टैंक निर्माण द्वारा कृत्रिम रूप से निर्मित होती हैं। नदी पर बांध बनाने से प्रवाहित जल पारितंत्र, स्थिर जल पारितंत्र में बदल जाता है। यह सामान्यतया सिंचाई, या शहरी और औद्योगिक उपयोग तथा जलविद्युत उत्पादन के लिए विकसित किया जाता है। झीलें कई प्रकार की होती हैं, ओलिगो ट्रोपिक, डायसट्रोपिक, यूट्रोपिक, इन्डेमिक, वोल्केनिक, मेरोमिक्टिक और कृत्रिम। इनकी जैवविविधता में शैवाल सम्मिलित हैं जो सूर्य से ऊर्जा प्राप्त करते हैं। यह शैवाल का उपयोग करने वाले सूक्ष्मजीवों को हस्तांतरित हो जाती है। सर्वभक्षी मछलियाँ, शैवाल और जलीय खरपतवार पर निर्भर होती हैं। घोंघे जैसे छोटे जीव सर्वभक्षी मछलियों द्वारा खाये जाते हैं जो बदले में बड़ी मछलियों द्वारा खाई जाती हैं। Some specialised fish, such as catfish, feed on the detritus on the muddy bed of the lake; they are called *bottom feeders* or *bottom dwellers*. मछुआरे इस स्वच्छ जल पारितंत्र पर निर्भर हैं और किसान इस जल का उपयोग अपने खेतों में करते हैं।

सूर्य ऊर्जा सतह जल को बंधित करती है जिसका उपयोग जलीय पादपों द्वारा किया जाता है। जलीय पादपों से ऊर्जा सर्वभक्षी पशुओं और जल में रहने वाले सर्वहारियों तक हस्तांतरित होती है। यह पशु अपशिष्ट उत्सर्जित करते हैं जो झील के पेंदे में बैठ जाते हैं जहाँ पर झील के पेंदे में रहने वाले मोलस्का और कीड़े जैसे छोटे जीवों द्वारा इनका अपघटन किया जाता है। यह जलीय पादपों द्वारा पोषक के रूप में प्रयुक्त होता है। इस प्रक्रिया में पादप अपनी वृद्धि के लिए CO₂ से कार्बन का उपयोग करते हैं और ऑक्सीजन निर्मुक्त करते हैं? यह ऑक्सीजन जलीय पादपों द्वारा प्रयुक्त होती है। जो अपने श्वसनी तंत्र से जल निस्पंदन करते हैं।

निम्नलिखित में से कौन-सा किसी झील में पोषकों के स्रोत के रूप में कार्य नहीं करता है?

- (1) कृषिगत बहाव
- (2) सीवेज अपशिष्ट
- (3) औद्योगिक अपशिष्ट/प्रदूषक
- (4) पशु उत्सर्जन

Options :

212807127833. 1
212807127834. 2
212807127835. 3
212807127836. 4

Question Number : 345 Question Id : 21280731960 Question Type : MCQ Option Shuffling : No Is Question Mandatory : No Calculator : None
Response Time : N.A Think Time : N.A Minimum Instruction Time : 0

Correct Marks : 5 Wrong Marks : 1

Question Key Details :

Key	Value
Comprehension	Compl

Lakes are freshwater ecosystems that may be natural or more frequently, artificially created by the construction of dams and tanks. Damming rivers alters a flowing water ecosystem to a still water ecosystem. This is usually developed for irrigation, or for water storage for urban or industrial use and hydroelectric power generation. There are several types of lakes - oligotrophic, dystrophic, eutrophic, endemic, volcanic, meromictic and artificial. Their biodiversity includes algae, which derives energy from the sun. This is transferred to microscopic animals which feed on the algae. Herbivorous fish, which in turn are preyed upon by larger carnivorous fish. Some specialised fish, such as catfish, feed on the detritus on the muddy bed of the lake; they are called *bottom feeders* or *bottom dwellers*. Fisherfolk depend heavily on this freshwater ecosystem, and farmers use it for water for their fields.

Sunlight penetrates the water surface of shallow parts of a lake ecosystem used by the aquatic plants. From the aquatic plants, energy is transferred to herbivorous animals and carnivores that live in water. These animals excrete waste products, which settle at the bottom of the lake and are broken down by small animals such as molluscs and worms that live in the mud in the lake bed. This acts as the nutrient material used by aquatic plants for their growth. During this process plants use carbon from CO₂ for their growth and release oxygen. This oxygen is then used by aquatic animals, which filter water through their respiratory system.

The aging process of lakes by excessive nutrient enrichment is referred to as :

- (1) Biopiracy
- (2) Biomagnification
- (3) Eutrophication
- (4) Bioaccumulation

Options :

- 212807127837. 1
- 212807127838. 2
- 212807127839. 3
- 212807127840. 4

Question Number : 345 Question Id : 21280731960 Question Type : MCQ Option Shuffling : No Is Question Mandatory : No Calculator : None
 Response Time : N.A Think Time : N.A Minimum Instruction Time : 0

Correct Marks : 5 Wrong Marks : 1

Question Key Details :

Key	Value
Comprehension	Compl

निम्नलिखित पैराग्राफ को पढ़ें और प्रश्न का उत्तर दीजिए

झीलों स्वच्छ जल पारितंत्र हैं जो प्राकृतिक या बहुधा बांधों और टैंक निर्माण द्वारा कृत्रिम रूप से निर्मित होती हैं। नदी पर बांध बनाने से प्रवाहित जल पारितंत्र, स्थिर जल पारितंत्र में बदल जाता है। यह सामान्यतया सिंचाई, या शहरी और औद्योगिक उपयोग तथा जलविद्युत उत्पादन के लिए विकसित किया जाता है। झीलों कई प्रकार की होती हैं, ओलिगो ट्रोपिक, डायसट्रोपिक, यूट्रोपिक, इन्डेमिक, वोल्केनिक, मेरोमिक्टिक और कृत्रिम। इनकी जैवविविधता में शैवाल सम्मिलित हैं जो सूर्य से ऊर्जा प्राप्त करते हैं। यह शैवाल का उपयोग करने वाले सूक्ष्मजीवों को हस्तांतरित हो जाती है। सर्वभक्षी मछलियाँ, शैवाल और जलीय खरपतवार पर निर्भर होती हैं। घोंघे जैसे छोटे जीव सर्वभक्षी मछलियों द्वारा खाये जाते हैं जो बदले में बड़ी मछलियों द्वारा खाई जाती हैं। Some specialised fish, such as catfish, feed on the detritus on the muddy bed of the lake; they are called *bottom feeders* or *bottom dwellers*. मछुआरे इस स्वच्छ जल पारितंत्र पर निर्भर हैं और किसान इस जल का उपयोग अपने खेतों में करते हैं।

सूर्य ऊर्जा सतह जल को बंधित करती है जिसका उपयोग जलीय पादपों द्वारा किया जाता है। जलीय पादपों से ऊर्जा सर्वभक्षी पशुओं और जल में रहने वाले सर्वहारियों तक हस्तांतरित होती है। यह पशु अपशिष्ट उत्सर्जित करते हैं जो झील के पेंदे में बैठ जाते हैं जहाँ पर झील के पेंदे में रहने वाले मोलस्का और कीड़े जैसे छोटे जीवों द्वारा इनका अपघटन किया जाता है। यह जलीय पादपों द्वारा पोषक के रूप में प्रयुक्त होता है। इस प्रक्रिया में पादप अपनी वृद्धि के लिए CO₂ से कार्बन का उपयोग करते हैं और ऑक्सीजन निर्मुक्त करते हैं? यह ऑक्सीजन जलीय पादपों द्वारा प्रयुक्त होती है। जो अपने श्वसनी तंत्र से जल निस्पंदन करते हैं।

अतिशय पोषक संवर्धन द्वारा झीलों की आयु प्रक्रिया को क्या कहा जाता है?

- (1) जैव पायरेसी
- (2) जैव आवर्धनीकरण
- (3) यूट्रोफिकेशन (संवर्धनीकरण)
- (4) जैव संचयन

Options :

212807127837. 1
212807127838. 2
212807127839. 3
212807127840. 4

Sub-Section Number :	3
Sub-Section Id :	2128072501
Question Shuffling Allowed :	No
Is Section Default? :	null

Question Number : 346 Question Id : 21280731961 Question Type : MCQ Option Shuffling : No Is Question Mandatory : No Calculator : None
Response Time : N.A Think Time : N.A Minimum Instruction Time : 0
Correct Marks : 5 Wrong Marks : 1

Question Key Details :

Key	Value
Comprehension	Comp2

Acid rain could be in form of rain, snow or mist acid rain occurring in a place could be caused by emission from far away. Industrial operations and fossil fuel combustions are the way as sources of acid forming gases. Since the advent of industrial revolution, human activities have been releasing such pollutants in large quantities. When soil is acidified it loses its productivity, which leads to damage plant roots. Thousand of lakes in Sweden, Norway have been permanently affected by acid. The Taj Mahal was also threatened by acid rain caused by factories in Agra, Acid neutralization is one way of reducing acidity. However reduction in emission is the best way to solve the problem.

Acid rain is primary caused by oxides of :

- (1) Carbon and sulfur
- (2) Carbon and nitrogen
- (3) Nitrogen and phosphorous
- (4) Nitrogen and sulfur

Options :

212807127841. 1
212807127842. 2
212807127843. 3
212807127844. 4

Question Number : 346 Question Id : 21280731961 Question Type : MCQ Option Shuffling : No Is Question Mandatory : No Calculator : None
Response Time : N.A Think Time : N.A Minimum Instruction Time : 0

Correct Marks : 5 Wrong Marks : 1

Question Key Details :

Key	Value
Comprehension	Comp2

निम्नलिखित पैराग्राफ को पढ़ें और प्रश्न का उत्तर दीजिए

अम्ल वर्षा, बारिश, बर्फ या ओस के रूप में हो सकती है। किसी स्थान पर होने वाली अम्ल वर्षा दूरस्थ उत्सर्जनों का परिणाम हो सकती है। औद्योगिक प्रचालन और जीवाश्म ईंधन दहन अम्ल निर्माणकारी गैसों के प्रमुख स्रोत हैं। औद्योगिक क्रांति के आरंभ से, मानवीय गतिविधियाँ बड़ी मात्रा में ऐसे प्रदूषक निर्मुक्त करती रही हैं। जब मृदा अम्लीकृत हो जाती है तो इसकी उत्पादकता समाप्त हो जाती है जिससे पादप मूल नष्ट होते हैं। स्वीडन, नॉर्वे में हजारों झीलें स्थायी रूप से प्रभावित हो चुकी हैं। ताजमहल भी आगरा के कारखानों के कारण हुई अम्ल वर्षा से प्रभावित हुआ था। अम्ल उदासीनीकरण अम्लता कम करने की एक रीति है। हालाँकि उत्सर्जन में कमी समस्या का समाधान करने की सर्वोत्तम रीति है।

अम्ल वर्षा किसके ऑक्साइड के कारण प्राथमिक रूप से होती है ?

- (1) कार्बन और सल्फर
- (2) कार्बन और नाइट्रोजन
- (3) नाइट्रोजन और फास्फोरस
- (4) नाइट्रोजन और सल्फर

Options :

212807127841. 1
212807127842. 2
212807127843. 3
212807127844. 4

Question Number : 347 Question Id : 21280731962 Question Type : MCQ Option Shuffling : No Is Question Mandatory : No Calculator : None
Response Time : N.A Think Time : N.A Minimum Instruction Time : 0

Correct Marks : 5 Wrong Marks : 1

Question Key Details :

Key	Value
Comprehension	Comp2

Acid rain could be in form of rain, snow or mist acid rain occurring in a place could be caused by emission from far away. Industrial operations and fossil fuel combustions are the way as sources of acid forming gases. Since the advent of industrial revolution, human activities have been releasing such pollutants in large quantities. When soil is acidified it loses its productivity, which leads to damage plant roots. Thousand of lakes in Sweden, Norway have been permanently affected by acid. The Taj Mahal was also threatened by acid rain caused by factories in Agra, Acid neutralization is one way of reducing acidity. However reduction in emission is the best way to solve the problem.

Neutral pH natural rain water is :

- (1) 7.0
- (2) 5.6
- (3) 6.5
- (4) 6.0

Options :

212807127845. 1
212807127846. 2
212807127847. 3
212807127848. 4

Question Number : 347 Question Id : 21280731962 Question Type : MCQ Option Shuffling : No Is Question Mandatory : No Calculator : None
Response Time : N.A Think Time : N.A Minimum Instruction Time : 0

Correct Marks : 5 Wrong Marks : 1

Question Key Details :

Key	Value
Comprehension	Comp2

निम्नलिखित पैराग्राफ को पढ़ें और प्रश्न का उत्तर दीजिए

अम्ल वर्षा, बारिश, बर्फ या ओस के रूप में हो सकती है। किसी स्थान पर होने वाली अम्ल वर्षा दूरस्थ उत्सर्जनों का परिणाम हो सकती है। औद्योगिक प्रचालन और जीवाश्म ईंधन दहन अम्ल निर्माणकारी गैसों के प्रमुख स्रोत हैं। औद्योगिक क्रांति के आरंभ से, मानवीय गतिविधियाँ बड़ी मात्रा में ऐसे प्रदूषक निर्मुक्त करती रही हैं। जब मृदा अम्लीकृत हो जाती है तो इसकी उत्पादकता समाप्त हो जाती है जिससे पादप मूल नष्ट होते हैं। स्वीडन, नॉर्वे में हजारों झीलें स्थायी रूप से प्रभावित हो चुकी हैं। ताजमहल भी आगरा के कारखानों के कारण हुई अम्ल वर्षा से प्रभावित हुआ था। अम्ल उदासीनीकरण अम्लता कम करने की एक रीति है। हालाँकि उत्सर्जन में कमी समस्या का समाधान करने की सर्वोत्तम रीति है।

प्राकृतिक वर्षा जल का प्राकृतिक pH होता है :

- (1) 7.0
- (2) 5.6
- (3) 6.5
- (4) 6.0

Options :

212807127845. 1
212807127846. 2
212807127847. 3
212807127848. 4

Question Number : 348 Question Id : 21280731963 Question Type : MCQ Option Shuffling : No Is Question Mandatory : No Calculator : None
Response Time : N.A Think Time : N.A Minimum Instruction Time : 0

Correct Marks : 5 Wrong Marks : 1

Question Key Details :

Key	Value
Comprehension	Comp2

Acid rain could be in form of rain, snow or mist acid rain occurring in a place could be caused by emission from far away. Industrial operations and fossil fuel combustions are the way as sources of acid forming gases. Since the advent of industrial revolution, human activities have been releasing such pollutants in large quantities. When soil is acidified it loses its productivity, which leads to damage plant roots. Thousand of lakes in Sweden, Norway have been permanently affected by acid. The Taj Mahal was also threatened by acid rain caused by factories in Agra, Acid neutralization is one way of reducing acidity. However reduction in emission is the best way to solve the problem.

Which of the following is not an acid neutralising species in ambient atmosphere ?

- (1) Ammonia
- (2) Calcium carbonate
- (3) Magnesium carbonate
- (4) Sodium hydroxide

Options :

212807127849. 1
212807127850. 2
212807127851. 3
212807127852. 4

Question Number : 348 Question Id : 21280731963 Question Type : MCQ Option Shuffling : No Is Question Mandatory : No Calculator : None Response Time : N.A Think Time : N.A Minimum Instruction Time : 0

Correct Marks : 5 Wrong Marks : 1

Question Key Details :

Key	Value
Comprehension	Comp2

निम्नलिखित पैराग्राफ को पढ़ें और प्रश्न का उत्तर दीजिए

अम्ल वर्षा, बारिश, बर्फ या ओस के रूप में हो सकती है। किसी स्थान पर होने वाली अम्ल वर्षा दूरस्थ उत्सर्जनों का परिणाम हो सकती है। औद्योगिक प्रचालन और जीवाश्म ईंधन दहन अम्ल निर्माणकारी गैसों के प्रमुख स्रोत हैं। औद्योगिक क्रांति के आरंभ से, मानवीय गतिविधियाँ बड़ी मात्रा में ऐसे प्रदूषक निर्मुक्त करती रही हैं। जब मृदा अम्लीकृत हो जाती है तो इसकी उत्पादकता समाप्त हो जाती है जिससे पादप मूल नष्ट होते हैं। स्वीडन, नॉर्वे में हजारों झीलें स्थायी रूप से प्रभावित हो चुकी हैं। ताजमहल भी आगरा के कारखानों के कारण हुई अम्ल वर्षा से प्रभावित हुआ था। अम्ल उदासीनीकरण अम्लता कम करने की एक रीति है। हालाँकि उत्सर्जन में कमी समस्या का समाधान करने की सर्वोत्तम रीति है।

निम्नलिखित में से कौन-सी प्राकृतिक वातावरण में अम्ल उदासीकरण प्रजाति नहीं है ?

- (1) अमोनिया
- (2) कैल्शियम कार्बोनेट
- (3) मैग्नीशियम कार्बोनेट
- (4) सोडियम हाइड्रोक्साइड

Options :

212807127849. 1
212807127850. 2
212807127851. 3
212807127852. 4

Question Number : 349 Question Id : 21280731964 Question Type : MCQ Option Shuffling : No Is Question Mandatory : No Calculator : None Response Time : N.A Think Time : N.A Minimum Instruction Time : 0

Correct Marks : 5 Wrong Marks : 1

Question Key Details :

Key	Value
Comprehension	Comp2

Acid rain could be in form of rain, snow or mist acid rain occurring in a place could be caused by emission from far away. Industrial operations and fossil fuel combustions are the way as sources of acid forming gases. Since the advent of industrial revolution, human activities have been releasing such pollutants in large quantities. When soil is acidified it loses its productivity, which leads to damage plant roots. Thousand of lakes in Sweden, Norway have been permanently affected by acid. The Taj Mahal was also threatened by acid rain caused by factories in Agra, Acid neutralization is one way of reducing acidity. However reduction in emission is the best way to solve the problem.

Which one of the following is **not** an effect of acid rain ?

- (1) Deterioration of monuments
- (2) Leaching of nutrients from agricultural fields
- (3) Increases acidity of lakes
- (4) Increases soil salinity

Options :

212807127853. 1
212807127854. 2
212807127855. 3
212807127856. 4

Question Number : 349 Question Id : 21280731964 Question Type : MCQ Option Shuffling : No Is Question Mandatory : No Calculator : None Response Time : N.A Think Time : N.A Minimum Instruction Time : 0

Correct Marks : 5 Wrong Marks : 1

Question Key Details :

Key	Value
Comprehension	Comp2

निम्नलिखित पैराग्राफ को पढ़ें और प्रश्न का उत्तर दीजिए

अम्ल वर्षा, बारिश, बर्फ या ओस के रूप में हो सकती है। किसी स्थान पर होने वाली अम्ल वर्षा दूरस्थ उत्सर्जनों का परिणाम हो सकती है। औद्योगिक प्रचालन और जीवाश्म ईंधन दहन अम्ल निर्माणकारी गैसों के प्रमुख स्रोत हैं। औद्योगिक क्रांति के आरंभ से, मानवीय गतिविधियाँ बड़ी मात्रा में ऐसे प्रदूषक निर्मुक्त करती रही हैं। जब मृदा अम्लीकृत हो जाती है तो इसकी उत्पादकता समाप्त हो जाती है जिससे पादप मूल नष्ट होते हैं। स्वीडन, नॉर्वे में हजारों झीलें स्थायी रूप से प्रभावित हो चुकी हैं। ताजमहल भी आगरा के कारखानों के कारण हुई अम्ल वर्षा से प्रभावित हुआ था। अम्ल उदासीनीकरण अम्लता कम करने की एक रीति है। हालाँकि उत्सर्जन में कमी समस्या का समाधान करने की सर्वोत्तम रीति है।

निम्नलिखित में से कौन-सा अम्ल वर्षा का प्रभाव **नहीं** है ?

- (1) स्मारकों का अपक्षय
- (2) कृषि क्षेत्रों/खेतों से पोषकों का बहाव
- (3) झीलों की अम्लता बढ़ता है
- (4) मृदा लवणता बढ़ता है

Options :

212807127853. 1
212807127854. 2
212807127855. 3
212807127856. 4

Question Number : 350 Question Id : 21280731965 Question Type : MCQ Option Shuffling : No Is Question Mandatory : No Calculator : None Response Time : N.A Think Time : N.A Minimum Instruction Time : 0

Correct Marks : 5 Wrong Marks : 1

Question Key Details :

Key	Value
Comprehension	Comp2

Acid rain could be in form of rain, snow or mist acid rain occurring in a place could be caused by emission from far away. Industrial operations and fossil fuel combustions are the way as sources of acid forming gases. Since the advent of industrial revolution, human activities have been releasing such pollutants in large quantities. When soil is acidified it loses its productivity, which leads to damage plant roots. Thousand of lakes in Sweden, Norway have been permanently affected by acid. The Taj Mahal was also threatened by acid rain caused by factories in Agra, Acid neutralization is one way of reducing acidity. However reduction in emission is the best way to solve the problem.

Acid rain is an example of :

- (1) Line pollution
- (2) Point source pollution
- (3) Regional/area pollution
- (4) Global pollution

Options :

212807127857. 1
212807127858. 2
212807127859. 3
212807127860. 4

Question Number : 350 Question Id : 21280731965 Question Type : MCQ Option Shuffling : No Is Question Mandatory : No Calculator : None

Response Time : N.A Think Time : N.A Minimum Instruction Time : 0

Correct Marks : 5 Wrong Marks : 1

Question Key Details :

Key	Value
Comprehension	Comp2

निम्नलिखित पैराग्राफ को पढ़ें और प्रश्न का उत्तर दीजिए

अम्ल वर्षा, बारिश, बर्फ या ओस के रूप में हो सकती है। किसी स्थान पर होने वाली अम्ल वर्षा दूरस्थ उत्सर्जनों का परिणाम हो सकती है। औद्योगिक प्रचालन और जीवाश्म ईंधन दहन अम्ल निर्माणकारी गैसों के प्रमुख स्रोत हैं। औद्योगिक क्रांति के आरंभ से, मानवीय गतिविधियाँ बड़ी मात्रा में ऐसे प्रदूषक निर्मुक्त करती रही हैं। जब मृदा अम्लीकृत हो जाती है तो इसकी उत्पादकता समाप्त हो जाती है जिससे पादप मूल नष्ट होते हैं। स्वीडन, नॉर्वे में हजारों झीलें स्थायी रूप से प्रभावित हो चुकी हैं। ताजमहल भी आगरा के कारखानों के कारण हुई अम्ल वर्षा से प्रभावित हुआ था। अम्ल उदासीनीकरण अम्लता कम करने की एक रीति है। हालाँकि उत्सर्जन में कमी समस्या का समाधान करने की सर्वोत्तम रीति है।

अम्ल वर्षा किसका उदाहरण है ?

- (1) पंक्ति प्रदूषण
- (2) बिंदु स्रोत प्रदूषण
- (3) प्रादेशिक क्षेत्र प्रदूषण
- (4) वैश्विक प्रदूषण

Options :

212807127857. 1
212807127858. 2
212807127859. 3
212807127860. 4

Comp Sci or IP

Group Number :

14

Group Id :

212807738

Group Maximum Duration :

60

Group Minimum Duration :

60

Show Attended Group? : No
Edit Attended Group? : No
Break time : 0
Group Marks : 200
Is this Group for Examiner? : No
Examiner permission : Cant View
Show Progress Bar? : No

Compulsory

Section Id : 212807868
Section Number : 1
Section type : Online
Mandatory or Optional : Mandatory
Number of Questions : 15
Number of Questions to be attempted : 15
Section Marks : 75
Enable Mark as Answered Mark for Review and Clear Response : Yes
Maximum Instruction Time : 0
Sub-Section Number : 1
Sub-Section Id : 2128072502
Question Shuffling Allowed : Yes
Is Section Default? : null

Question Number : 351 Question Id : 21280731681 Question Type : MCQ Option Shuffling : No Is Question Mandatory : No Calculator : None
Response Time : N.A Think Time : N.A Minimum Instruction Time : 0
Correct Marks : 5 Wrong Marks : 1

Question Key Details :

Key	Value
Comprehension	MCQ1

Which one of the following is not a built-in-exception in Python ?

- (1) ValueError
- (2) EOFError
- (3) StackError
- (4) IndexError

Options :

212807126721. 1
212807126722. 2
212807126723. 3
212807126724. 4

Question Number : 351 Question Id : 21280731681 Question Type : MCQ Option Shuffling : No Is Question Mandatory : No Calculator : None
Response Time : N.A Think Time : N.A Minimum Instruction Time : 0
Correct Marks : 5 Wrong Marks : 1

Question Key Details :

Key	Value
Comprehension	MCQ1

निम्न में कौन सा पाइथन में built-in एक्सेपशन नहीं है ?

- (1) ValueError
- (2) EOFError
- (3) StackError
- (4) IndexError

Options :

212807126721. 1
212807126722. 2

212807126723. 3
212807126724. 4

Question Number : 352 Question Id : 21280731682 Question Type : MCQ Option Shuffling : No Is Question Mandatory : No Calculator : None
Response Time : N.A Think Time : N.A Minimum Instruction Time : 0
Correct Marks : 5 Wrong Marks : 1

Question Key Details :

Key	Value
Comprehension	MCQ1

The following five statements describe the methods used for file handling in Python. Choose an option that correctly sequences the definition of each.

- (A) Method used to open a file.
- (B) Method used to write the objects in a binary file.
- (C) Method used to read data from a binary file.
- (D) Method used to return an integer that specifies current position of the file object.
- (E) Method used to position the file object at a particular position in a file.

Choose the **correct** answer from the options given below :

- (1) open(), dump(), load(), tell(), seek()
- (2) load(), dump(), open(), seek(), tell()
- (3) load(), dump(), open(), tell(), seek()
- (4) open(), tell(), load(), seek(), dump()

Options :

212807126725. 1
212807126726. 2
212807126727. 3
212807126728. 4

Question Number : 352 Question Id : 21280731682 Question Type : MCQ Option Shuffling : No Is Question Mandatory : No Calculator : None
Response Time : N.A Think Time : N.A Minimum Instruction Time : 0
Correct Marks : 5 Wrong Marks : 1

Question Key Details :

Key	Value
Comprehension	MCQ1

निम्नलिखित पाँच कथन पाइथन में फाइल में रखरखाव के तरीकों के उपयोग को बताता है। प्रत्येक को सही क्रम में परिभाषा के लिए सही विकल्प चुने।

- (A) फाइल खोलने के लिए इस्तेमाल तरीके
- (B) ऑब्जेक्ट को बाइनरी फाइल में लिखने के लिए इस्तेमाल तरीके
- (C) बाइनरी फाइल से डाटा को पढ़ने के लिए इस्तेमाल तरीके
- (D) फाइल ऑब्जेक्ट के वर्तमान स्थिति की स्पष्टता को एक पूर्णांक देने के लिए इस्तेमाल तरीके
- (E) फाइल के एक विशेष स्थान पर फाइल ऑब्जेक्ट की स्थिति के लिए इस्तेमाल तरीके

नीचे दिए गए विकल्पों में से सही उत्तर चुने :

- (1) open(), dump(), load(), tell(), seek()
- (2) load(), dump(), open(), seek(), tell()
- (3) load(), dump(), open(), tell(), seek()
- (4) open(), tell(), load(), seek(), dump()

Options :

212807126725. 1

212807126726. 2
212807126727. 3
212807126728. 4

Question Number : 353 Question Id : 21280731683 Question Type : MCQ Option Shuffling : No Is Question Mandatory : No Calculator : None
Response Time : N.A Think Time : N.A Minimum Instruction Time : 0

Correct Marks : 5 Wrong Marks : 1

Question Key Details :

Key	Value
Comprehension	MCQ1

While opening a text file, the text editor translates :

- (1) Each character into it's binary equivalent
- (2) Each character into equivalent ASCII value
- (3) Each ASCII value to equivalent character
- (4) Each binary value to it's equivalent hexadecimal value

Options :

212807126729. 1
212807126730. 2
212807126731. 3
212807126732. 4

Question Number : 353 Question Id : 21280731683 Question Type : MCQ Option Shuffling : No Is Question Mandatory : No Calculator : None
Response Time : N.A Think Time : N.A Minimum Instruction Time : 0

Correct Marks : 5 Wrong Marks : 1

Question Key Details :

Key	Value
Comprehension	MCQ1

टेक्स्ट फाइल खोलते समय, टेक्स्ट एडिटर अनुवाद करता है-

- (1) प्रत्येक कैरेक्टर को उसके बाईनरी समकक्ष से
- (2) प्रत्येक कैरेक्टर को ASCII समकक्ष मान में
- (3) प्रत्येक ASCII मान को समकक्ष कैरेक्टर में
- (4) प्रत्येक बाईनरी मान को उसके हेक्साडेसीमल मान के समकक्ष

Options :

212807126729. 1
212807126730. 2
212807126731. 3
212807126732. 4

Question Number : 354 Question Id : 21280731684 Question Type : MCQ Option Shuffling : No Is Question Mandatory : No Calculator : None
Response Time : N.A Think Time : N.A Minimum Instruction Time : 0

Correct Marks : 5 Wrong Marks : 1

Question Key Details :

Key	Value
Comprehension	MCQ1

In Python, when open() method is applied in '<a>' mode, a file is opened in append mode. If the file does not exist, then :

- (1) The system will generate an error message
- (2) The system will terminate
- (3) The system will generate a new file
- (4) The system will generate an error message and terminate

Options :

212807126733. 1
 212807126734. 2
 212807126735. 3
 212807126736. 4

Question Number : 354 Question Id : 21280731684 Question Type : MCQ Option Shuffling : No Is Question Mandatory : No Calculator : None
 Response Time : N.A Think Time : N.A Minimum Instruction Time : 0

Correct Marks : 5 Wrong Marks : 1

Question Key Details :

Key	Value
Comprehension	MCQ1

पाइथन में, जब open () तरीके को '<a>मोड में लगाया जाता है, तो एक फाइल एपेंड (apened) मोड में खुलेगा-अगर फाइल अस्तित्व में न हो तब-

- (1) सिस्टम एक एरर उत्पन्न करेगा
- (2) सिस्टम समाप्त हो जाएगा
- (3) सिस्टम एक नया फाइल उत्पन्न करेगा
- (4) सिस्टम एक एरर संवाद उत्पन्न करेगा और समाप्त हो जाएगा

Options :

212807126733. 1
 212807126734. 2
 212807126735. 3
 212807126736. 4

Question Number : 355 Question Id : 21280731685 Question Type : MCQ Option Shuffling : No Is Question Mandatory : No Calculator : None
 Response Time : N.A Think Time : N.A Minimum Instruction Time : 0

Correct Marks : 5 Wrong Marks : 1

Question Key Details :

Key	Value
Comprehension	MCQ1

_____ is the logical architecture of a Database while _____ is snapshot/ state of database after loading data in a database.

- (1) Meta-Data, DB Schema
- (2) DB Schema, DB Instance
- (3) Meta-Data, DB Instance
- (4) DB Instance, DB Schema

Options :

212807126737. 1
 212807126738. 2
 212807126739. 3
 212807126740. 4

Question Number : 355 Question Id : 21280731685 Question Type : MCQ Option Shuffling : No Is Question Mandatory : No Calculator : None
 Response Time : N.A Think Time : N.A Minimum Instruction Time : 0

Correct Marks : 5 Wrong Marks : 1

Question Key Details :

Key	Value
Comprehension	MCQ1

_____ डेटाबेस का एक लॉजिकल आर्किटेक्चर है जबकि _____ एक स्नैप शॉट/स्थिति डेटाबेस का अर्थ डेटाबेस में डेटा को लोड करने के बाद।

- (1) Meta-Data, DB Schema
- (2) DB Schema, DB Instance
- (3) Meta-Data, DB Instance
- (4) DB Instance, DB Schema

Options :

- 212807126737. 1
- 212807126738. 2
- 212807126739. 3
- 212807126740. 4

Question Number : 356 Question Id : 21280731686 Question Type : MCQ Option Shuffling : No Is Question Mandatory : No Calculator : None Response Time : N.A Think Time : N.A Minimum Instruction Time : 0

Correct Marks : 5 Wrong Marks : 1

Question Key Details :

Key	Value
Comprehension	MCQ1

File system becomes difficult to handle when number of files increases and volume of data also grows. Identify the limitations of file system.

- (1) Data isolation
- (2) Data constraint
- (3) Data dictionary
- (4) Degree

Options :

- 212807126741. 1
- 212807126742. 2
- 212807126743. 3
- 212807126744. 4

Question Number : 356 Question Id : 21280731686 Question Type : MCQ Option Shuffling : No Is Question Mandatory : No Calculator : None Response Time : N.A Think Time : N.A Minimum Instruction Time : 0

Correct Marks : 5 Wrong Marks : 1

Question Key Details :

Key	Value
Comprehension	MCQ1

जब फाइलों की संख्या और डाटा का आयतन बढ़ता है तो फाइल सिस्टम को सम्भालना मुश्किल हो जाता है। फाइल सिस्टम के सीमाओं को पहचाने

- (1) डाटा आइसोलेशन
- (2) डाटा कॉन्स्ट्रेंट
- (3) डाटा डिक्सनरी
- (4) डिग्री

Options :

- 212807126741. 1
- 212807126742. 2
- 212807126743. 3
- 212807126744. 4

Question Number : 357 Question Id : 21280731687 Question Type : MCQ Option Shuffling : No Is Question Mandatory : No Calculator : None Response Time : N.A Think Time : N.A Minimum Instruction Time : 0

Correct Marks : 5 Wrong Marks : 1

Question Key Details :

Key	Value
Comprehension	MCQ1

Consider the table below : UNIFORM

Vcode	Vname	Vcolor
1	Shirt	White
2	Pant	Grey
3	Skirt	Grey

Which of the following tuples cannot be inserted into the UNIFORM table ?

- (1) 4, Ribbon, Red
- (2) 5, NULL, White
- (3) 2, Belt, Blue
- (4) 7, handkerchief, NULL

Options :

212807126745. 1

212807126746. 2

212807126747. 3

212807126748. 4

Question Number : 357 Question Id : 21280731687 Question Type : MCQ Option Shuffling : No Is Question Mandatory : No Calculator : None Response Time : N.A Think Time : N.A Minimum Instruction Time : 0

Correct Marks : 5 Wrong Marks : 1

Question Key Details :

Key	Value
Comprehension	MCQ1

UNIFORM सारणी पर विचार करे

Vcode	Vname	Vcolor
1	Shirt	White
2	Pant	Grey
3	Skirt	Grey

निम्न में से कौन सा टपल को UNIFORM सारणी में स्थापित नहीं किया जा सकता है।

- (1) 4, Ribbon, Red
- (2) 5, NULL, White
- (3) 2, Belt, Blue
- (4) 7, handkerchief, NULL

Options :

212807126745. 1

212807126746. 2

212807126747. 3

212807126748. 4

Question Number : 358 Question Id : 21280731688 Question Type : MCQ Option Shuffling : No Is Question Mandatory : No Calculator : None Response Time : N.A Think Time : N.A Minimum Instruction Time : 0

Correct Marks : 5 Wrong Marks : 1

Question Key Details :

Key	Value
Comprehension	MCQ1

A table student has two text fields defined as below :

:

Name_1 varchar(20),

Name2 char(20),

If Name_1 stores value as 'Ana' and Name2 stores value as 'Anuj', then Name_1 will consume _____ characters space and Name2 will consume _____ characters space.

- (1) 3, 20
- (2) 20, 4
- (3) 20, 20
- (4) 3, 4

Options :

- 212807126749. 1
- 212807126750. 2
- 212807126751. 3
- 212807126752. 4

Question Number : 358 Question Id : 21280731688 Question Type : MCQ Option Shuffling : No Is Question Mandatory : No Calculator : None Response Time : N.A Think Time : N.A Minimum Instruction Time : 0

Correct Marks : 5 Wrong Marks : 1

Question Key Details :

Key	Value
Comprehension	MCQ1

एक student सारणी के दो टेक्स्ट फील्ड निम्न प्रकार है:-

:

Name_1 varchar(20),

Name2 char(20),

Name_1 अगर 'Ana' के मान को तथा Name2 'Anuj' के नाम को संचित करता हूँ तो Name_1 करेक्टर स्थान तथा Name2 _____ करेक्टर स्थान लेगा।

- (1) 3, 20
- (2) 20, 4
- (3) 20, 20
- (4) 3, 4

Options :

- 212807126749. 1
- 212807126750. 2
- 212807126751. 3
- 212807126752. 4

Question Number : 359 Question Id : 21280731689 Question Type : MCQ Option Shuffling : No Is Question Mandatory : No Calculator : None Response Time : N.A Think Time : N.A Minimum Instruction Time : 0

Correct Marks : 5 Wrong Marks : 1

Question Key Details :

Key	Value
Comprehension	MCQ1

Select mid("Computerscience",8);

returns the output :

- (1) Computer
- (2) Computers
- (3) rscience
- (4) Compute

Options :

- 212807126753. 1
- 212807126754. 2
- 212807126755. 3
- 212807126756. 4

Question Number : 359 Question Id : 21280731689 Question Type : MCQ Option Shuffling : No Is Question Mandatory : No Calculator : None Response Time : N.A Think Time : N.A Minimum Instruction Time : 0

Correct Marks : 5 Wrong Marks : 1

Question Key Details :

Key	Value
Comprehension	MCQ1

Select mid("Computerscience",8);

क्या आउटपुट देगा:

- (1) Computer
- (2) Computers
- (3) rscience
- (4) Compute

Options :

- 212807126753. 1
- 212807126754. 2
- 212807126755. 3
- 212807126756. 4

Question Number : 360 Question Id : 21280731690 Question Type : MCQ Option Shuffling : No Is Question Mandatory : No Calculator : None Response Time : N.A Think Time : N.A Minimum Instruction Time : 0

Correct Marks : 5 Wrong Marks : 1

Question Key Details :

Key	Value
Comprehension	MCQ1

Which two constraints when applied together will produce a primary key constraint ?

- (A) NOT NULL
- (B) UNIQUE
- (C) DEFAULT
- (D) ZERO

Choose the correct answer from the options given below :

- (1) (B) only
- (2) (B) and (D) only
- (3) (A), (B) and (C) only
- (4) (A) and (B) only

Options :

- 212807126757. 1

212807126758. 2
212807126759. 3
212807126760. 4

Question Number : 360 Question Id : 21280731690 Question Type : MCQ Option Shuffling : No Is Question Mandatory : No Calculator : None
Response Time : N.A Think Time : N.A Minimum Instruction Time : 0

Correct Marks : 5 Wrong Marks : 1

Question Key Details :

Key	Value
Comprehension	MCQ1

कौन से दो कॉन्स्ट्रेंट जब एक साथ लगाया जाए तो वे एक प्राईमरी की कॉन्स्ट्रेंट देंगे ?

- (A) NOT NULL
- (B) UNIQUE
- (C) DEFAULT
- (D) ZERO

नीचे दिए गए विकल्पों में से सही उत्तर का चयन कीजिए :

- (1) केवल (B)
- (2) केवल (B) और (D)
- (3) केवल (A), (B) और (C)
- (4) केवल (A) और (B)

Options :

212807126757. 1
212807126758. 2
212807126759. 3
212807126760. 4

Question Number : 361 Question Id : 21280731691 Question Type : MCQ Option Shuffling : No Is Question Mandatory : No Calculator : None
Response Time : N.A Think Time : N.A Minimum Instruction Time : 0

Correct Marks : 5 Wrong Marks : 1

Question Key Details :

Key	Value
Comprehension	MCQ1

Which statement is used to add a constraint in existing attribute of a relation ?

- (1) UPDATE
- (2) SELECT
- (3) ALTER
- (4) CREATE

Options :

212807126761. 1
212807126762. 2
212807126763. 3
212807126764. 4

Question Number : 361 Question Id : 21280731691 Question Type : MCQ Option Shuffling : No Is Question Mandatory : No Calculator : None
Response Time : N.A Think Time : N.A Minimum Instruction Time : 0

Correct Marks : 5 Wrong Marks : 1

Question Key Details :

Key	Value
Comprehension	MCQ1

एक रिलेशन के वर्तमान एट्रीब्यूट में एक कॉन्स्ट्रेन्ट जोड़ने के लिए कौन सी कथन का उपयोग होता है ?

- (1) UPDATE
- (2) SELECT
- (3) ALTER
- (4) CREATE

Options :

212807126761. 1
212807126762. 2
212807126763. 3
212807126764. 4

Question Number : 362 Question Id : 21280731692 Question Type : MCQ Option Shuffling : No Is Question Mandatory : No Calculator : None
Response Time : N.A Think Time : N.A Minimum Instruction Time : 0

Correct Marks : 5 Wrong Marks : 1

Question Key Details :

Key	Value
Comprehension	MCQ1

Which one the following is not a web browser ?

- (1) Mozilla Firefox
- (2) Yahoo
- (3) Google Chrome
- (4) Opera

Options :

212807126765. 1
212807126766. 2
212807126767. 3
212807126768. 4

Question Number : 362 Question Id : 21280731692 Question Type : MCQ Option Shuffling : No Is Question Mandatory : No Calculator : None
Response Time : N.A Think Time : N.A Minimum Instruction Time : 0

Correct Marks : 5 Wrong Marks : 1

Question Key Details :

Key	Value
Comprehension	MCQ1

निम्न में से कौन सा एक वेब-ब्राउजर नहीं है

- (1) मोजिला फायरफॉक्स
- (2) याहू
- (3) गूगल क्रोम
- (4) ओपेरा

Options :

212807126765. 1
212807126766. 2
212807126767. 3
212807126768. 4

Question Number : 363 Question Id : 21280731693 Question Type : MCQ Option Shuffling : No Is Question Mandatory : No Calculator : None
Response Time : N.A Think Time : N.A Minimum Instruction Time : 0

Correct Marks : 5 Wrong Marks : 1

Question Key Details :

Key	Value
Comprehension	MCQ1

To host a website the various steps are listed below. Arrange the steps in appropriate sequence which is followed for hosting a website.

- (A) Identification of domain name
- (B) Identification of web hosting service provider
- (C) Uploading of files
- (D) Creation of login and password
- (E) Obtain a domain name with IP address mapping

Choose the correct answer from the options given below :

- (1) (E), (D), (C), (B), (A)
- (2) (A), (B), (D), (C), (E)
- (3) (B), (A), (D), (C), (E)
- (4) (B), (D), (C), (A), (E)

Options :

- 212807126769. 1
- 212807126770. 2
- 212807126771. 3
- 212807126772. 4

Question Number : 363 Question Id : 21280731693 Question Type : MCQ Option Shuffling : No Is Question Mandatory : No Calculator : None
Response Time : N.A Think Time : N.A Minimum Instruction Time : 0
Correct Marks : 5 Wrong Marks : 1

Question Key Details :

Key	Value
Comprehension	MCQ1

एक वेबसाइट को होस्ट करने के लिए विभिन्न चरणों को नीचे सूचीबद्ध किया गया है। चरणों को उचित क्रम में व्यवस्थित करें, करें, जो वेबसाइट को होस्ट करने के लिए अनुसरण किया जाए ?

- (A) डोमेन नाम की पहचान
- (B) वेब होस्टिंग सेवा प्रदाता की पहचान
- (C) फाइन को अपलोड करना
- (D) लॉगइन एवं पासवर्ड बनाना
- (E) IP एड्रेस की मैपिंग के साथ डोमेन नाम प्राप्त करना

नीचे दिए गए विकल्पों में से सही उत्तर चुने

- (1) (E), (D), (C), (B), (A)
- (2) (A), (B), (D), (C), (E)
- (3) (B), (A), (D), (C), (E)
- (4) (B), (D), (C), (A), (E)

Options :

- 212807126769. 1
- 212807126770. 2
- 212807126771. 3
- 212807126772. 4

Question Number : 364 Question Id : 21280731694 Question Type : MCQ Option Shuffling : No Is Question Mandatory : No Calculator : None
Response Time : N.A Think Time : N.A Minimum Instruction Time : 0
Correct Marks : 5 Wrong Marks : 1

Question Key Details :

Key	Value
-----	-------

Identify the protocol name(s) used in computer network from the following.

- (A) FTP
- (B) HTML
- (C) HTTP
- (D) Telnet
- (E) Modem

Choose the correct answer from the options given below :

- (1) (A), (B) and (C) only
- (2) (B), (C) and (D) only
- (3) (A), (C) and (D) only
- (4) (A), (C) and (E) only

Options :

- 212807126773. 1
- 212807126774. 2
- 212807126775. 3
- 212807126776. 4

Question Number : 364 Question Id : 21280731694 Question Type : MCQ Option Shuffling : No Is Question Mandatory : No Calculator : None
Response Time : N.A Think Time : N.A Minimum Instruction Time : 0

Correct Marks : 5 Wrong Marks : 1

Question Key Details :

Key	Value
Comprehension	MCQ1

निम्न में से कम्प्यूटर नेटवर्क में इस्तेमाल प्रोटोकाल नामों को पहचाने

- (A) FTP
- (B) HTML
- (C) HTTP
- (D) Telnet
- (E) Modem

नीचे दिए विकल्पों में से सही उत्तर चुने :

- (1) केवल (A), (B) और (C)
- (2) केवल (B), (C) और (D)
- (3) केवल (A), (C) और (D)
- (4) केवल (A), (C) और (E)

Options :

- 212807126773. 1
- 212807126774. 2
- 212807126775. 3
- 212807126776. 4

Question Number : 365 Question Id : 21280731695 Question Type : MCQ Option Shuffling : No Is Question Mandatory : No Calculator : None
Response Time : N.A Think Time : N.A Minimum Instruction Time : 0

Correct Marks : 5 Wrong Marks : 1

Question Key Details :

Key	Value
Comprehension	MCQ1

Which one of the following is not applicable for electronic mail (Email) ?

- (1) It can be sent anytime to any number of recipients.
- (2) It provides communication in real time.
- (3) One has to register with an email service provider to exchange email.
- (4) An existing file can be sent as an attachment which the email.

Options :

212807126777. 1
212807126778. 2
212807126779. 3
212807126780. 4

Question Number : 365 Question Id : 21280731695 Question Type : MCQ Option Shuffling : No Is Question Mandatory : No Calculator : None
Response Time : N.A Think Time : N.A Minimum Instruction Time : 0

Correct Marks : 5 Wrong Marks : 1

Question Key Details :

Key	Value
Comprehension	MCQ1

निम्न में से कौन सा इलेक्ट्रॉनिक मेल (ई-मेल) में लागू नहीं है ?

- (1) इसे किसी भी समय, कितनी भी संख्या में प्राप्तकर्ता को भेजा जाता है।
- (2) यह वास्तविक समय में संचार प्रदान करता है।
- (3) मेल को आदान-प्रदान करने के लिए ई-मेल सुविधा प्रदान कर्ता के पास पंजीकरण कराना होगा।
- (4) एक मौजूदा फाइल को मेल के साथ अटैचमेंट के रूप में भेजा जा सकता है।

Options :

212807126777. 1
212807126778. 2
212807126779. 3
212807126780. 4

Computer Science

Section Id :	212807869
Section Number :	2
Section type :	Online
Mandatory or Optional :	Optional
Number of Questions :	35
Number of Questions to be attempted :	25
Section Marks :	125
Enable Mark as Answered Mark for Review and Clear Response :	Yes
Maximum Instruction Time :	0
Sub-Section Number :	1
Sub-Section Id :	2128072503
Question Shuffling Allowed :	Yes
Is Section Default? :	null

Question Number : 366 Question Id : 21280731696 Question Type : MCQ Option Shuffling : No Is Question Mandatory : No Calculator : None
Response Time : N.A Think Time : N.A Minimum Instruction Time : 0

Correct Marks : 5 Wrong Marks : 1

Question Key Details :

Key	Value
Comprehension	MCQ2

Which out of the following is not the application of stacks ?

- (1) Parenthesis balancing
- (2) Tracking of local variable at run time
- (3) Analyzer for compiler syntax
- (4) Transferring of data between two asynchronous processes

Options :

- 212807126781. 1
- 212807126782. 2
- 212807126783. 3
- 212807126784. 4

Question Number : 366 Question Id : 21280731696 Question Type : MCQ Option Shuffling : No Is Question Mandatory : No Calculator : None Response Time : N.A Think Time : N.A Minimum Instruction Time : 0

Correct Marks : 5 Wrong Marks : 1

Question Key Details :

Key	Value
Comprehension	MCQ2

निम्न में से कौन सा स्टैक का इस्तेमाल नहीं है ?

- (1) कोष्ठक संतुलन
- (2) रन टाइम पर लोकल चर को ट्रेक करना
- (3) कंपाइलर सिंटैक्स के लिए विश्लेषक
- (4) दो अतुल्यकालिक प्रक्रिया के बीच डेटा का स्थानांतरण

Options :

- 212807126781. 1
- 212807126782. 2
- 212807126783. 3
- 212807126784. 4

Question Number : 367 Question Id : 21280731697 Question Type : MCQ Option Shuffling : No Is Question Mandatory : No Calculator : None Response Time : N.A Think Time : N.A Minimum Instruction Time : 0

Correct Marks : 5 Wrong Marks : 1

Question Key Details :

Key	Value
Comprehension	MCQ2

It is taken that enteries that are made in stack are considered "ordered". What does this imply ?

- (1) You can sort the collection of stack
- (2) The enteries made in the stack can be compared by '<' operation
- (3) Enteries made are sequential that is one by one
- (4) Resource allocation in stack

Options :

- 212807126785. 1
- 212807126786. 2
- 212807126787. 3
- 212807126788. 4

Question Number : 367 Question Id : 21280731697 Question Type : MCQ Option Shuffling : No Is Question Mandatory : No Calculator : None Response Time : N.A Think Time : N.A Minimum Instruction Time : 0

Correct Marks : 5 Wrong Marks : 1

Question Key Details :

Key	Value
-----	-------

यह माना जाता है कि स्टैक में की गई प्रविष्टियों को "ordered" होती है, इसका क्या मतलब होता है ?

- (1) आप स्टैक के संग्रह को सॉर्ट कर सकते हैं।
- (2) स्टैक में की गई प्रविष्टियों की तुलना '<' आपरेशन से की जा सकती है।
- (3) की गई प्रविष्टियाँ अनुक्रमिक है जो एक-एक करके होती है।
- (4) स्टैक में संसाधन आवंटन

Options :

212807126785. 1
212807126786. 2
212807126787. 3
212807126788. 4

Question Number : 368 Question Id : 21280731698 Question Type : MCQ Option Shuffling : No Is Question Mandatory : No Calculator : None
Response Time : N.A Think Time : N.A Minimum Instruction Time : 0

Correct Marks : 5 Wrong Marks : 1

Question Key Details :

Key	Value
Comprehension	MCQ2

Which one of the following is not related to stack ?

- (1) PUSH
- (2) POP
- (3) FIFO
- (4) LIFO

Options :

212807126789. 1
212807126790. 2
212807126791. 3
212807126792. 4

Question Number : 368 Question Id : 21280731698 Question Type : MCQ Option Shuffling : No Is Question Mandatory : No Calculator : None
Response Time : N.A Think Time : N.A Minimum Instruction Time : 0

Correct Marks : 5 Wrong Marks : 1

Question Key Details :

Key	Value
Comprehension	MCQ2

निम्न में से कौन सा स्टैक से संबंधित नहीं है ?

- (1) PUSH
- (2) POP
- (3) FIFO
- (4) LIFO

Options :

212807126789. 1
212807126790. 2
212807126791. 3
212807126792. 4

Question Number : 369 Question Id : 21280731699 Question Type : MCQ Option Shuffling : No Is Question Mandatory : No Calculator : None
Response Time : N.A Think Time : N.A Minimum Instruction Time : 0

Correct Marks : 5 Wrong Marks : 1

Question Key Details :

Key	Value

Comprehension	MCQ2
---------------	------

The postfix for a string is $ABC + - D^*$, the actual string will be :

- (1) $(A - (B + C))^*D$
- (2) $((A - B) + C)^*D$
- (3) $((A + B) - C)^*D$
- (4) $(A + (B - C))^*D$

Options :

- 212807126793. 1
- 212807126794. 2
- 212807126795. 3
- 212807126796. 4

Question Number : 369 Question Id : 21280731699 Question Type : MCQ Option Shuffling : No Is Question Mandatory : No Calculator : None Response Time : N.A Think Time : N.A Minimum Instruction Time : 0

Correct Marks : 5 Wrong Marks : 1

Question Key Details :

Key	Value
Comprehension	MCQ2

एक स्ट्रींग का पोस्टफिक्स $ABC + - D^*$ है तो इसका असली स्ट्रींग क्या होगा ?

- (1) $(A - (B + C))^*D$
- (2) $((A - B) + C)^*D$
- (3) $((A + B) - C)^*D$
- (4) $(A + (B - C))^*D$

Options :

- 212807126793. 1
- 212807126794. 2
- 212807126795. 3
- 212807126796. 4

Question Number : 370 Question Id : 21280731700 Question Type : MCQ Option Shuffling : No Is Question Mandatory : No Calculator : None Response Time : N.A Think Time : N.A Minimum Instruction Time : 0

Correct Marks : 5 Wrong Marks : 1

Question Key Details :

Key	Value
Comprehension	MCQ2

The operation is used to insert a new element at the front of the deque.

- (1) InsertRear
- (2) InsertFront
- (3) DeletionFront
- (4) DeletionRear

Options :

- 212807126797. 1
- 212807126798. 2
- 212807126799. 3
- 212807126800. 4

Question Number : 370 Question Id : 21280731700 Question Type : MCQ Option Shuffling : No Is Question Mandatory : No Calculator : None Response Time : N.A Think Time : N.A Minimum Instruction Time : 0

Correct Marks : 5 Wrong Marks : 1

Question Key Details :

Key	Value

deque के सामने नए अवयव को जोड़ने के लिए किस आपरेशन का इस्तेमाल होता है।

- (1) InsertRear
- (2) InsertFront
- (3) DeletionFront
- (4) DeletionRear

Options :

212807126797. 1
212807126798. 2
212807126799. 3
212807126800. 4

Question Number : 371 Question Id : 21280731701 Question Type : MCQ Option Shuffling : No Is Question Mandatory : No Calculator : None
Response Time : N.A Think Time : N.A Minimum Instruction Time : 0

Correct Marks : 5 Wrong Marks : 1

Question Key Details :

Key	Value
Comprehension	MCQ2

Which of the following is not true about queue ?

- (1) It follows the principle of First In First Out (FIFO)
- (2) It follows the First Come First Solved (FCFS) approach
- (3) In queue most recent element will be the first one to delete
- (4) In simple queue elements get added from the rear end

Options :

212807126801. 1
212807126802. 2
212807126803. 3
212807126804. 4

Question Number : 371 Question Id : 21280731701 Question Type : MCQ Option Shuffling : No Is Question Mandatory : No Calculator : None
Response Time : N.A Think Time : N.A Minimum Instruction Time : 0

Correct Marks : 5 Wrong Marks : 1

Question Key Details :

Key	Value
Comprehension	MCQ2

निम्न में से कौन सा क्यू queue के बारे में सही नहीं है ?

- (1) यह फर्स्ट इन फर्स्ट आउट (FIFO) के नियम को अनुसरण करता है,
- (2) यह फर्स्ट कम फर्स्ट सर्व (FCFS) तरीके से अनुसरण करता है।
- (3) क्यू (queue) में सबसे नजदीकी वाल अवयव पहले हटाया जाएगा।
- (4) एक साधारण क्यू (queue) में अवयव अंतिम छोर में जोड़ा जाता है।

Options :

212807126801. 1
212807126802. 2
212807126803. 3
212807126804. 4

Question Number : 372 Question Id : 21280731702 Question Type : MCQ Option Shuffling : No Is Question Mandatory : No Calculator : None
Response Time : N.A Think Time : N.A Minimum Instruction Time : 0

Correct Marks : 5 Wrong Marks : 1

Question Key Details :

Key	Value
Comprehension	MCQ2

In queue following operation are performed enqueue(10), enqueue(20), enqueue(15), dequeue(), enqueue(25), enqueue(35), dequeue(), dequeue(), what is the final content of queue.

(1)

		15	25	35
--	--	----	----	----

(2)

10	20			
----	----	--	--	--

(3)

			25	35
--	--	--	----	----

(4)

10				25	35
----	--	--	--	----	----

Options :

212807126805. 1

212807126806. 2

212807126807. 3

212807126808. 4

Question Number : 372 Question Id : 21280731702 Question Type : MCQ Option Shuffling : No Is Question Mandatory : No Calculator : None Response Time : N.A Think Time : N.A Minimum Instruction Time : 0

Correct Marks : 5 Wrong Marks : 1

Question Key Details :

Key	Value
Comprehension	MCQ2

क्यू (queue) का फाइनल कंटेंट क्या है? यदि एक क्यू (queue) में आगे के ऑपरेशन लगाया जाए तो enqueue(10), enqueue(20), enqueue(15), dequeue(), enqueue(25), enqueue(35), dequeue(), dequeue().

(1)

		15	25	35
--	--	----	----	----

(2)

10	20			
----	----	--	--	--

(3)

			25	35
--	--	--	----	----

(4)

10				25	35
----	--	--	--	----	----

Options :

212807126805. 1

212807126806. 2

212807126807. 3

212807126808. 4

Question Number : 373 Question Id : 21280731703 Question Type : MCQ Option Shuffling : No Is Question Mandatory : No Calculator : None Response Time : N.A Think Time : N.A Minimum Instruction Time : 0

Correct Marks : 5 Wrong Marks : 1

Question Key Details :

Key	Value
Comprehension	MCQ2

A normal linear queue, if implemented using an array/list of size LIMIT, gets full when :

- (1) $front = rear + 1$
- (2) $rear = front$
- (3) $front = (rear + 1) \% LIMIT$
- (4) $rear = LIMIT - 1$

Options :

- 212807126809. 1
- 212807126810. 2
- 212807126811. 3
- 212807126812. 4

Question Number : 373 Question Id : 21280731703 Question Type : MCQ Option Shuffling : No Is Question Mandatory : No Calculator : None
Response Time : N.A Think Time : N.A Minimum Instruction Time : 0

Correct Marks : 5 Wrong Marks : 1

Question Key Details :

Key	Value
Comprehension	MCQ2

एक साधारण रैखिक क्यू (queue) एक ऐरे/लिस्ट LIMIT साइज का लगाया जाए तो यह भरेगा जब _____ हो।

- (1) $front = rear + 1$
- (2) $rear = front$
- (3) $front = (rear + 1) \% LIMIT$
- (4) $rear = LIMIT - 1$

Options :

- 212807126809. 1
- 212807126810. 2
- 212807126811. 3
- 212807126812. 4

Question Number : 374 Question Id : 21280731704 Question Type : MCQ Option Shuffling : No Is Question Mandatory : No Calculator : None
Response Time : N.A Think Time : N.A Minimum Instruction Time : 0

Correct Marks : 5 Wrong Marks : 1

Question Key Details :

Key	Value
Comprehension	MCQ2

Let us consider for an Algorithm A, a nested loop and also a single loop is present what would be the time complexity for algorithm A ?

- (1) 1
- (2) n
- (3) n^2
- (4) n^3

Options :

- 212807126813. 1
- 212807126814. 2
- 212807126815. 3
- 212807126816. 4

Question Number : 374 Question Id : 21280731704 Question Type : MCQ Option Shuffling : No Is Question Mandatory : No Calculator : None
Response Time : N.A Think Time : N.A Minimum Instruction Time : 0

Correct Marks : 5 Wrong Marks : 1

Question Key Details :

Key	Value
-----	-------

एक ऐल्गोरिथम A पर विचार करें एक नेस्टेड लूप तथा एक सिंगल लूप मौजूद हो तो इस ऐल्गोरिथम A की समय जाटिलता क्या होगी ?

- (1) 1
- (2) n
- (3) n^2
- (4) n^3

Options :

- 212807126813. 1
- 212807126814. 2
- 212807126815. 3
- 212807126816. 4

Question Number : 375 Question Id : 21280731705 Question Type : MCQ Option Shuffling : No Is Question Mandatory : No Calculator : None Response Time : N.A Think Time : N.A Minimum Instruction Time : 0

Correct Marks : 5 Wrong Marks : 1

Question Key Details :

Key	Value
Comprehension	MCQ2

In bubble sort algorithm, every iteration through each element of a list is called ?

- (1) Return
- (2) Mate
- (3) Pass
- (4) Sort

Options :

- 212807126817. 1
- 212807126818. 2
- 212807126819. 3
- 212807126820. 4

Question Number : 375 Question Id : 21280731705 Question Type : MCQ Option Shuffling : No Is Question Mandatory : No Calculator : None Response Time : N.A Think Time : N.A Minimum Instruction Time : 0

Correct Marks : 5 Wrong Marks : 1

Question Key Details :

Key	Value
Comprehension	MCQ2

बबल सॉर्ट ऐल्गोरिथम में, सूची के प्रत्येक तत्व के माध्यम से प्रत्येक पुनरावृत्ति को कहा _____ जाता है।

- (1) रिटर्न (Return)
- (2) मेट (Mate)
- (3) पास (Pass)
- (4) सॉर्ट (Sort)

Options :

- 212807126817. 1
- 212807126818. 2
- 212807126819. 3
- 212807126820. 4

Question Number : 376 Question Id : 21280731706 Question Type : MCQ Option Shuffling : No Is Question Mandatory : No Calculator : None Response Time : N.A Think Time : N.A Minimum Instruction Time : 0

Correct Marks : 5 Wrong Marks : 1

Question Key Details :

Key	Value
Comprehension	MCQ2

Consider a list of elements 8, 7, 3, 4, 1, 9 and perform the insertion sort in ascending order. Which of the following intermediate list occur during sorting.

- (A) 7, 8, 3, 4, 1, 9
- (B) 7, 3, 8, 4, 1, 9
- (C) 3, 4, 7, 8, 1, 9
- (D) 7, 3, 4, 8, 1, 9
- (E) 1, 7, 3, 4, 8, 9

Choose the **correct** answer from the options given below :

- (1) (A) only
- (2) (A), (D) and (E) only
- (3) (B), (C) and (D) only
- (4) (A), (B) and (C) only

Options :

- 212807126821. 1
- 212807126822. 2
- 212807126823. 3
- 212807126824. 4

Question Number : 376 Question Id : 21280731706 Question Type : MCQ Option Shuffling : No Is Question Mandatory : No Calculator : None
Response Time : N.A Think Time : N.A Minimum Instruction Time : 0

Correct Marks : 5 Wrong Marks : 1

Question Key Details :

Key	Value
Comprehension	MCQ2

लिस्ट के अवयव 8, 7, 3, 4, 1, 9 पर विचार करे और आरोही क्रम में इनसर्सन सॉर्ट को प्रदर्शित करे निम्न में से कौन सा सॉर्टिंग के दौरान माध्यवर्ती लिस्ट आयेगा।

- (A) 7, 8, 3, 4, 1, 9
- (B) 7, 3, 8, 4, 1, 9
- (C) 3, 4, 7, 8, 1, 9
- (D) 7, 3, 4, 8, 1, 9
- (E) 1, 7, 3, 4, 8, 9

नीचे दिए गए विकल्पों में से **सही** उत्तर का चयन कीजिए :

- (1) केवल (A)
- (2) केवल (A), (D) और (E)
- (3) केवल (B), (C) और (D)
- (4) केवल (A), (B) और (C)

Options :

- 212807126821. 1
- 212807126822. 2
- 212807126823. 3
- 212807126824. 4

Question Number : 377 Question Id : 21280731707 Question Type : MCQ Option Shuffling : No Is Question Mandatory : No Calculator : None
Response Time : N.A Think Time : N.A Minimum Instruction Time : 0

Correct Marks : 5 Wrong Marks : 1

Question Key Details :

Key	Value
Comprehension	MCQ2

Which sorting algorithm works by continuously swapping the adjacent elements ?

- (1) INSERTION SORT
- (2) SELECTION SORT
- (3) BUBBLE SORT
- (4) QUICK SORT

Options :

- 212807126825. 1
- 212807126826. 2
- 212807126827. 3
- 212807126828. 4

Question Number : 377 Question Id : 21280731707 Question Type : MCQ Option Shuffling : No Is Question Mandatory : No Calculator : None
Response Time : N.A Think Time : N.A Minimum Instruction Time : 0

Correct Marks : 5 Wrong Marks : 1

Question Key Details :

Key	Value
Comprehension	MCQ2

कौन सी सॉर्टिंग एल्गोरिथम आसन्न तत्वों को लगातार अदली-बदली करके काम करता है।

- (1) इनसर्सन सॉर्ट (INSERTION SORT)
- (2) सैलेक्शन सॉर्ट (SELECTION SORT)
- (3) बबल सॉर्ट (BUBBLE SORT)
- (4) क्विक सॉर्ट (QUICK SORT)

Options :

- 212807126825. 1
- 212807126826. 2
- 212807126827. 3
- 212807126828. 4

Question Number : 378 Question Id : 21280731708 Question Type : MCQ Option Shuffling : No Is Question Mandatory : No Calculator : None
Response Time : N.A Think Time : N.A Minimum Instruction Time : 0

Correct Marks : 5 Wrong Marks : 1

Question Key Details :

Key	Value
Comprehension	MCQ2

Which two constraints when applied together will produce a primary key constraint ?

- (1) Primary key, Default
- (2) Not NULL, Unique
- (3) Unique, Default
- (4) Primary key, Foreign key

Options :

- 212807126829. 1
- 212807126830. 2
- 212807126831. 3
- 212807126832. 4

Question Number : 378 Question Id : 21280731708 Question Type : MCQ Option Shuffling : No Is Question Mandatory : No Calculator : None
Response Time : N.A Think Time : N.A Minimum Instruction Time : 0

Correct Marks : 5 Wrong Marks : 1

Question Key Details :

Key	Value
Comprehension	MCQ2

कौन से दो कान्सट्रेन्ट्स को एक साथ लागू करने पर प्राइमरी की अवरोध उत्पन्न होंगे।

- (1) प्राइमरी की, डीफॉल्ट
- (2) नॉटनल, यूनीक
- (3) यूनीक, डीफॉल्ट
- (4) प्राइमरी की, फॉरेन की

Options :

- 212807126829. 1
- 212807126830. 2
- 212807126831. 3
- 212807126832. 4

Question Number : 379 Question Id : 21280731709 Question Type : MCQ Option Shuffling : No Is Question Mandatory : No Calculator : None
Response Time : N.A Think Time : N.A Minimum Instruction Time : 0

Correct Marks : 5 Wrong Marks : 1

Question Key Details :

Key	Value
Comprehension	MCQ2

Which of the following statements are true ?

- (A) Where condition in SQL can include aggregate functions.
- (B) Having condition in SQL can include aggregate functions.
- (C) SQL set operators tend to combine columns from two or more tables.
- (D) GROUP BY function is used to group rows of a table that contain the same values in a specified column.
- (E) Minus operator is also known as intersect operator.

Choose the correct answer from the options given below :

- (1) (A) and (C) only
- (2) (C) and (E) only
- (3) (B) and (D) only
- (4) (A), (C) and (E) only

Options :

- 212807126833. 1
- 212807126834. 2
- 212807126835. 3
- 212807126836. 4

Question Number : 379 Question Id : 21280731709 Question Type : MCQ Option Shuffling : No Is Question Mandatory : No Calculator : None
Response Time : N.A Think Time : N.A Minimum Instruction Time : 0

Correct Marks : 5 Wrong Marks : 1

Question Key Details :

Key	Value
Comprehension	MCQ2

निम्नलिखित कथन में से कौन सा सही है?

- (A) SQL में Where कंडिशन एग्रीगेट फंक्शन शामिल कर सकते हैं।
- (B) SQL में Having कंडिशन एग्रीगेट फंक्शन शामिल कर सकते हैं।
- (C) SQL सेट ऑपरेटर दो या दो से अधिक तालिकाओं के स्तंभों को संयोजित करते हैं।
- (D) GROUP BY फंक्शन का उपयोग तालिका की पंक्तियों को सामूहिक करने के लिए किया जाता है जो निर्दिष्ट स्तंभ में समान मानों को जोड़ती है।
- (E) माइनस ऑपरेटर को इंटरसेक्ट ऑपरेटर के रूप में भी जाना जाता है।

नीचे दिए विकल्पों में से सही उत्तर को चुने :

- (1) केवल (A) और (C)
- (2) केवल (C) और (E)
- (3) केवल (B) और (D)
- (4) केवल (A), (C) और (E)

Options :

- 212807126833. 1
- 212807126834. 2
- 212807126835. 3
- 212807126836. 4

Question Number : 380 Question Id : 21280731710 Question Type : MCQ Option Shuffling : No Is Question Mandatory : No Calculator : None Response Time : N.A Think Time : N.A Minimum Instruction Time : 0

Correct Marks : 5 Wrong Marks : 1

Question Key Details :

Key	Value
Comprehension	MCQ2

Match List - I with List - II.

List - I

- (A) Alter
- (B) Update
- (C) Distinct
- (D) Like

List - II

- (I) eliminate repetition and display the value only once
- (II) pattern matching
- (III) modify existing data in the table
- (IV) make changes in the structure of the table

Choose the correct answer from the options given below :

- (1) (A)-(III), (B)-(II), (C)-(IV), (D)-(I)
- (2) (A)-(IV), (B)-(III), (C)-(I), (D)-(II)
- (3) (A)-(I), (B)-(IV), (C)-(II), (D)-(III)
- (4) (A)-(II), (B)-(I), (C)-(III), (D)-(IV)

Options :

- 212807126837. 1
- 212807126838. 2
- 212807126839. 3
- 212807126840. 4

Question Number : 380 Question Id : 21280731710 Question Type : MCQ Option Shuffling : No Is Question Mandatory : No Calculator : None Response Time : N.A Think Time : N.A Minimum Instruction Time : 0

Correct Marks : 5 Wrong Marks : 1

Question Key Details :

Key	Value
-----	-------

सूची-I से सूची-II का मिलान कीजिए :

सूची-I

सूची-II

- | | |
|-----------------|---|
| (A) ऑल्टर | (I) दोहराव को समाप्त करें और केवल एक बार मान प्रदर्शित करें |
| (B) अपडेट | (II) पैटर्न का मिलान |
| (C) डिस्टीन्क्ट | (III) तालिका में मौजूद डेटा को संशोधित करें |
| (D) लाइक | (IV) तालिका को संरचना में परिवर्तन करें |

नीचे दिए गए विकल्पों में से सही उत्तर का चयन कीजिए :

- (1) (A)-(III), (B)-(II), (C)-(IV), (D)-(I)
- (2) (A)-(IV), (B)-(III), (C)-(I), (D)-(II)
- (3) (A)-(I), (B)-(IV), (C)-(II), (D)-(III)
- (4) (A)-(II), (B)-(I), (C)-(III), (D)-(IV)

Options :

212807126837. 1
212807126838. 2
212807126839. 3
212807126840. 4

Question Number : 381 Question Id : 21280731711 Question Type : MCQ Option Shuffling : No Is Question Mandatory : No Calculator : None
Response Time : N.A Think Time : N.A Minimum Instruction Time : 0

Correct Marks : 5 Wrong Marks : 1

Question Key Details :

Key	Value
Comprehension	MCQ2

HAVING clause in SQL is used to specify conditions on the rows with _____.

- (1) where clause
- (2) order by clause
- (3) from clause
- (4) Group by clause

Options :

212807126841. 1
212807126842. 2
212807126843. 3
212807126844. 4

Question Number : 381 Question Id : 21280731711 Question Type : MCQ Option Shuffling : No Is Question Mandatory : No Calculator : None
Response Time : N.A Think Time : N.A Minimum Instruction Time : 0

Correct Marks : 5 Wrong Marks : 1

Question Key Details :

Key	Value
Comprehension	MCQ2

SQL में HAVING क्लॉज का उपयोग पंक्तियों पर _____ के साथ शर्तों को निर्दिष्ट करने के लिए किया जाता है।

- (1) where clause
- (2) order by clause
- (3) from clause
- (4) Group by clause

Options :

212807126841. 1
212807126842. 2
212807126843. 3
212807126844. 4

Question Number : 382 Question Id : 21280731712 Question Type : MCQ Option Shuffling : No Is Question Mandatory : No Calculator : None
Response Time : N.A Think Time : N.A Minimum Instruction Time : 0

Correct Marks : 5 Wrong Marks : 1

Question Key Details :

Key	Value
Comprehension	MCQ2

Consider the following statements :

- (A) Each attribute in a relation has a unique name
- (B) All data values in an attribute must be from the same domain
- (C) A special value NULL is used to represent values that are unknown
- (D) A database constraint allow different types of data to inserted into the table

Choose the correct answer from the options given below :

- (1) (A), (B) and (C) only
- (2) (A), (B) only
- (3) (A), (C), (D) only
- (4) (A), (B), (C) and (D) only

Options :

212807126845. 1
212807126846. 2
212807126847. 3
212807126848. 4

Question Number : 382 Question Id : 21280731712 Question Type : MCQ Option Shuffling : No Is Question Mandatory : No Calculator : None
Response Time : N.A Think Time : N.A Minimum Instruction Time : 0

Correct Marks : 5 Wrong Marks : 1

Question Key Details :

Key	Value
Comprehension	MCQ2

निम्नलिखित कथनों पर विचार करें

- (A) रिलेशन में प्रत्येक एट्रिब्यूट का एक अद्वितीय नाम होता है
- (B) किसी एट्रिब्यूट में सभी डेटा का मान एक ही डोमेन से होना चाहिए
- (C) अज्ञात मानों का प्रतिनिधित्व करने के लिए एक विशेष मान NULL का उपयोग किया जाता है
- (D) एक डेटाबेस कान्सट्रेंट विभिन्न प्रकार के डेटा को तालिका में सम्मिलित करने की अनुमति देती है।

नीचे दिए गए विकल्पों में सही उत्तर चुनिए

- (1) केवल (A), (B) और (C)
- (2) केवल (A), (B)
- (3) केवल (A), (C), (D)
- (4) केवल (A), (B), (C) और (D)

Options :

212807126845. 1
212807126846. 2
212807126847. 3

Question Number : 383 Question Id : 21280731713 Question Type : MCQ Option Shuffling : No Is Question Mandatory : No Calculator : None
Response Time : N.A Think Time : N.A Minimum Instruction Time : 0

Correct Marks : 5 Wrong Marks : 1

Question Key Details :

Key	Value
Comprehension	MCQ2

Match List - I with List - II.

List - I

- (A) Data Base Schema
(B) Data Constraint
(C) Meta Data
(D) Database Instance

List - II

- (I) Limitation on the type of data
(II) Data about data
(III) State or snapshot of the database
(IV) Visual or logical architecture

Choose the correct answer from the options given below :

- (1) (A)-(II), (B)-(I), (C)-(IV), (D)-(III)
(2) (A)-(III), (B)-(I), (C)-(IV), (D)-(II)
(3) (A)-(II), (B)-(IV), (C)-(I), (D)-(III)
(4) (A)-(IV), (B)-(I), (C)-(II), (D)-(III)

Options :

212807126849. 1
212807126850. 2
212807126851. 3
212807126852. 4

Question Number : 383 Question Id : 21280731713 Question Type : MCQ Option Shuffling : No Is Question Mandatory : No Calculator : None
Response Time : N.A Think Time : N.A Minimum Instruction Time : 0

Correct Marks : 5 Wrong Marks : 1

Question Key Details :

Key	Value
Comprehension	MCQ2

सूची-I से सूची-II का मिलान कीजिए :

सूची-I

- (A) डेटा बेस स्किमा
(B) डेटा कान्सट्रेंट
(C) मेटा डेटा
(D) डेटाबेस इनस्टैंस

सूची-II

- (I) डेटा के प्रकार का प्रतिबन्ध
(II) डेटा के बारे में डेटा
(III) डेटा बेस की स्थिति या स्नैपशॉट
(IV) दृश्य या तार्किक संरचना

नीचे दिए गए विकल्पों में से सही उत्तर का चयन कीजिए :

- (1) (A)-(II), (B)-(I), (C)-(IV), (D)-(III)
(2) (A)-(III), (B)-(I), (C)-(IV), (D)-(II)
(3) (A)-(II), (B)-(IV), (C)-(I), (D)-(III)
(4) (A)-(IV), (B)-(I), (C)-(II), (D)-(III)

Options :

212807126849. 1
212807126850. 2
212807126851. 3
212807126852. 4

Question Number : 384 Question Id : 21280731714 Question Type : MCQ Option Shuffling : No Is Question Mandatory : No Calculator : None
Response Time : N.A Think Time : N.A Minimum Instruction Time : 0

Correct Marks : 5 Wrong Marks : 1

Question Key Details :

Key	Value
Comprehension	MCQ2

The tuples within a relation must be _____.

- (1) Common
- (2) Distinct
- (3) Copy
- (4) None

Options :

212807126853. 1
212807126854. 2
212807126855. 3
212807126856. 4

Question Number : 384 Question Id : 21280731714 Question Type : MCQ Option Shuffling : No Is Question Mandatory : No Calculator : None
Response Time : N.A Think Time : N.A Minimum Instruction Time : 0

Correct Marks : 5 Wrong Marks : 1

Question Key Details :

Key	Value
Comprehension	MCQ2

एक रिलेशन के भीतर टपल्स _____ होना चाहिए।

- (1) कॉमन
- (2) डिस्टीन्क्ट
- (3) कॉपी
- (4) कोई नहीं

Options :

212807126853. 1
212807126854. 2
212807126855. 3
212807126856. 4

Question Number : 385 Question Id : 21280731715 Question Type : MCQ Option Shuffling : No Is Question Mandatory : No Calculator : None
Response Time : N.A Think Time : N.A Minimum Instruction Time : 0

Correct Marks : 5 Wrong Marks : 1

Question Key Details :

Key	Value
Comprehension	MCQ2

Hard disk, SSD, CD/DVD, pendrive are examples of _____ devices.

- (1) Input
- (2) Output
- (3) Storage
- (4) Volatile

Options :

212807126857. 1
212807126858. 2
212807126859. 3
212807126860. 4

Question Number : 385 Question Id : 21280731715 Question Type : MCQ Option Shuffling : No Is Question Mandatory : No Calculator : None
Response Time : N.A Think Time : N.A Minimum Instruction Time : 0

Correct Marks : 5 Wrong Marks : 1

Question Key Details :

Key	Value
Comprehension	MCQ2

हार्ड डिस्क, एसएसडी, सीडी/डीवीडी, पेन ड्राइव उपकरणों के उदाहरण हैं _____ ।

- (1) इनपुट
- (2) आउटपुट
- (3) स्टोरेज
- (4) वोलैटाइल

Options :

212807126857. 1

212807126858. 2

212807126859. 3

212807126860. 4

Sub-Section Number :

2

Sub-Section Id :

2128072504

Question Shuffling Allowed :

No

Is Section Default? :

null

Question Number : 386 Question Id : 21280731716 Question Type : MCQ Option Shuffling : No Is Question Mandatory : No Calculator : None
Response Time : N.A Think Time : N.A Minimum Instruction Time : 0

Correct Marks : 5 Wrong Marks : 1

Question Key Details :

Key	Value
Comprehension	Comp1

```

Color = ['Red', 'Green', 'Blue', 'Pink', 'Yellow', 'Magenta', 'Black']
def longcolors (____, ____): # Fillline1
    with _____: # Fillline2
        _____: # Fillline3
        _____: # Fillline4
        _____: # Fillline5

fname = 'Color.txt'
n = int(input("Enter a number(4-7) :"))
_____ # filline6
file = open(fname)
print(file.read())

```

Complete code for Fillline1 and Fillline6 so that Fillline6 invoke the longcolors functions by passing two arguments filename and integer n.

- (1) longcolors("colors", 5)
- (2) def longcolors("colors", 5)
- (3) def longcolors(n, frame):
longcolors(n, frame)
- (4) def longcolors(frame, n)
longcolors(frame, n)

Options :

- 212807126861. 1
- 212807126862. 2
- 212807126863. 3
- 212807126864. 4

Question Number : 386 Question Id : 21280731716 Question Type : MCQ Option Shuffling : No Is Question Mandatory : No Calculator : None
Response Time : N.A Think Time : N.A Minimum Instruction Time : 0
Correct Marks : 5 Wrong Marks : 1

Question Key Details :

Key	Value
Comprehension	Comp1

```

Color = ['Red', 'Green', 'Blue', 'Pink', 'Yellow', 'Magenta', 'Black']
def longcolors (____, ____): # Fillline1
    with _____: # Fillline2
        _____: # Fillline3
        _____: # Fillline4
        _____: # Fillline5

fname = 'Color.txt'
n = int(input("Enter a number(4-7) :"))
_____ # filline6
file = open(fname)
print(file.read())

```

Fillline1 और Fillline6 के लिए पूरा कोड क्या है ताकि Fillline6 दो तर्क आर्ग्यूमेंट फंक्शन filename और integer n पास करके longcolors फंक्शन को लागू कर सके।

- (1) longcolors("colors", 5)
- (2) def longcolors("colors", 5)
- (3) def longcolors(n, frame):
longcolors(n, frame)
- (4) def longcolors(frame, n)
longcolors(frame, n)

Options :

- 212807126861. 1
- 212807126862. 2
- 212807126863. 3
- 212807126864. 4

Question Number : 387 Question Id : 21280731717 Question Type : MCQ Option Shuffling : No Is Question Mandatory : No Calculator : None
Response Time : N.A Think Time : N.A Minimum Instruction Time : 0

Correct Marks : 5 Wrong Marks : 1

Question Key Details :

Key	Value
Comprehension	Comp1

```
Color = ['Red', 'Green', 'Blue', 'Pink', 'Yellow', 'Magenta', 'Black']
```

```
def longcolors (____, ____): # Fillline1  
    with _____: # Fillline2  
        _____: # Fillline3  
        _____: # Fillline4  
        _____: # Fillline5
```

```
fname = 'Color.txt'
```

```
n = int(input("Enter a number(4-7) :"))
```

```
_____ # filline6
```

```
file = open(fname)
```

```
print(file.read())
```

Open the file for writing using a with statement in the file object namely myf.(filline2)

- (1) with open(frame, "w") as myf :
- (2) with open(frame, "w") as myfile :
- (3) with open(frame) as myfile :
- (4) with open(colors) as myfile :

Options :

212807126865. 1

212807126866. 2

212807126867. 3

212807126868. 4

Question Number : 387 Question Id : 21280731717 Question Type : MCQ Option Shuffling : No Is Question Mandatory : No Calculator : None Response Time : N.A Think Time : N.A Minimum Instruction Time : 0

Correct Marks : 5 Wrong Marks : 1

Question Key Details :

Key	Value
Comprehension	Comp1

```

Color = ['Red', 'Green', 'Blue', 'Pink', 'Yellow', 'Magenta', 'Black']
def longcolors (____, ____): # Fillline1
    with _____: # Fillline2
        _____: # Fillline3
        _____: # Fillline4
        _____: # Fillline5

fname = 'Color.txt'
n = int(input("Enter a number(4-7) :"))
_____ # fillline6
file = open(fname)
print(file.read())

```

फाइल ऑब्जेक्ट नाम myf.(fillline2) में with कथन का उपयोग करके लिखने के लिए फाइल खोले।

- (1) with open(frame, "w") as myf :
- (2) with open(frame, "w") as myfile :
- (3) with open(frame) as myfile :
- (4) with open(colors) as myfile :

Options :

- 212807126865. 1
- 212807126866. 2
- 212807126867. 3
- 212807126868. 4

Question Number : 388 Question Id : 21280731718 Question Type : MCQ Option Shuffling : No Is Question Mandatory : No Calculator : None
 Response Time : N.A Think Time : N.A Minimum Instruction Time : 0

Correct Marks : 5 Wrong Marks : 1

Question Key Details :

Key	Value
Comprehension	Comp1

```
Color = ['Red', 'Green', 'Blue', 'Pink', 'Yellow', 'Magenta', 'Black']
```

```
def longcolors (____, ____): # Fillline1  
    with _____: # Fillline2  
        _____: # Fillline3  
        _____: # Fillline4  
        _____: # Fillline5
```

```
fname = 'Color.txt'
```

```
n = int(input("Enter a number(4-7) :"))
```

```
_____ # filline6
```

```
file = open(fname)
```

```
print(file.read())
```

Identify correct code for Fillline3 to create a loop so that each color is picked :

- (1) for c in range(0, color) :
- (2) for c in color :
- (3) For c in color :
- (4) for c in range(color)

Options :

212807126869. 1

212807126870. 2

212807126871. 3

212807126872. 4

Question Number : 388 Question Id : 21280731718 Question Type : MCQ Option Shuffling : No Is Question Mandatory : No Calculator : None
Response Time : N.A Think Time : N.A Minimum Instruction Time : 0

Correct Marks : 5 Wrong Marks : 1

Question Key Details :

Key	Value
Comprehension	Comp1


```

Color = ['Red', 'Green', 'Blue', 'Pink', 'Yellow', 'Magenta', 'Black']
def longcolors (____, ____): # Fillline1
    with _____: # Fillline2
        _____: # Fillline3
        _____: # Fillline4
        _____: # Fillline5

fname = 'Color.txt'
n = int(input("Enter a number(4-7) :"))
_____ # filline6
file = open(fname)
print(file.read())

```

एक लूप बनाने के लिए Fillline3 के लिए कोड की पहचान करें ताकि color चुना जा सके:

- (1) for c in range(0, color) :
- (2) for c in color :
- (3) For c in color :
- (4) for c in range(color)

Options :

- 212807126869. 1
- 212807126870. 2
- 212807126871. 3
- 212807126872. 4

Question Number : 389 Question Id : 21280731719 Question Type : MCQ Option Shuffling : No Is Question Mandatory : No Calculator : None
 Response Time : N.A Think Time : N.A Minimum Instruction Time : 0

Correct Marks : 5 Wrong Marks : 1

Question Key Details :

Key	Value
Comprehension	Compl

```
Color = ['Red', 'Green', 'Blue', 'Pink', 'Yellow', 'Magenta', 'Black']
```

```
def longcolors (____, ____): # Fillline1  
    with _____: # Fillline2  
        _____: # Fillline3  
        _____: # Fillline4  
        _____: # Fillline5
```

```
fname = 'Color.txt'
```

```
n = int(input("Enter a number(4-7) :"))
```

```
_____ # filline6
```

```
file = open(fname)
```

```
print(file.read())
```

Inside the loop write code for Fillline4 and Fillline5 so that only colors from the color list get written in separate lines on the file that have word length more than n.

- (1) if len(c) > n
 myf.write(c)
- (2) if len(c) > = n :
 myfile.write(c + '\n')
- (3) if len(c) > n :
 myf.write(c + '\n')
- (4) if len(c) > n :
 myf.write(c)

Options :

- 212807126873. 1
- 212807126874. 2
- 212807126875. 3
- 212807126876. 4

Question Number : 389 Question Id : 21280731719 Question Type : MCQ Option Shuffling : No Is Question Mandatory : No Calculator : None
Response Time : N.A Think Time : N.A Minimum Instruction Time : 0

Correct Marks : 5 Wrong Marks : 1

Question Key Details :

Key	Value
Comprehension	Compl

```
Color = ['Red', 'Green', 'Blue', 'Pink', 'Yellow', 'Magenta', 'Black']
```

```
def longcolors (____, ____): # Fillline1  
    with _____: # Fillline2  
        _____: # Fillline3  
        _____: # Fillline4  
        _____: # Fillline5
```

```
fname = 'Color.txt'
```

```
n = int(input("Enter a number(4-7) :"))
```

```
_____ # filline6
```

```
file = open(fname)
```

```
print(file.read())
```

लूप के अंदर Fillline4 और Fillline5 के लिए कोड लिखें ताकि color सूची से केवल color फाइल पर अलग-अलग पंक्तियों में लिखा जाए जिनकी शब्द लंबाई n से अधिक है।

- (1) if len(c) > n
 myf.write(c)
- (2) if len(c) > = n :
 myfile.write(c + '\n')
- (3) if len(c) > n :
 myf.write(c + '\n')
- (4) if len(c) > n :
 myf.write(c)

Options :

212807126873. 1

212807126874. 2

212807126875. 3

212807126876. 4

Question Number : 390 Question Id : 21280731720 Question Type : MCQ Option Shuffling : No Is Question Mandatory : No Calculator : None Response Time : N.A Think Time : N.A Minimum Instruction Time : 0

Correct Marks : 5 Wrong Marks : 1

Question Key Details :

Key	Value
Comprehension	Compl

```
Color = ['Red', 'Green', 'Blue', 'Pink', 'Yellow', 'Magenta', 'Black']
```

```
def longcolors (____, ____): # Fillline1  
    with _____: # Fillline2  
        _____: # Fillline3  
        _____: # Fillline4  
        _____: # Fillline5
```

```
fname = 'Color.txt'
```

```
n = int(input("Enter a number(4-7) :"))
```

```
_____ # filline6
```

```
file = open(fname)
```

```
print(file.read())
```

What will be the output if the value of n is entered as 5 ?

- (1) Green
Black
- (2) 4
- (3) Green
Yellow
Magenta
Black
- (4) Yellow
Magenta

Options :

212807126877. 1

212807126878. 2

212807126879. 3

212807126880. 4

Question Number : 390 Question Id : 21280731720 Question Type : MCQ Option Shuffling : No Is Question Mandatory : No Calculator : None
Response Time : N.A Think Time : N.A Minimum Instruction Time : 0

Correct Marks : 5 Wrong Marks : 1

Question Key Details :

Key	Value
Comprehension	Comp1

```
Color = ['Red', 'Green', 'Blue', 'Pink', 'Yellow', 'Magenta', 'Black']
```

```
def longcolors (____, ____): # Fillline1  
    with _____: # Fillline2  
        _____: # Fillline3  
        _____: # Fillline4  
        _____: # Fillline5
```

```
fname = 'Color.txt'
```

```
n = int(input("Enter a number(4-7) :"))
```

```
_____ # filline6
```

```
file = open(fname)
```

```
print(file.read())
```

यदि n का मान 5 के रूप में दर्ज किया जाए तो आउटपुट क्या होगा?

- (1) Green
Black
- (2) 4
- (3) Green
Yellow
Magenta
Black
- (4) Yellow
Magenta

Options :

212807126877. 1

212807126878. 2

212807126879. 3

212807126880. 4

Sub-Section Number :

3

Sub-Section Id :

2128072505

Question Shuffling Allowed :

No

Is Section Default? :

null

Question Number : 391 Question Id : 21280731721 Question Type : MCQ Option Shuffling : No Is Question Mandatory : No Calculator : None

Response Time : N.A Think Time : N.A Minimum Instruction Time : 0

Correct Marks : 5 Wrong Marks : 1

Question Key Details :

Key	Value
Comprehension	Comp2

MAC address is a physical or hardware address is a unique value associated with a network adapter called NIC. MAC address is a 12-drgit hexadecimal numbers shown as below :

FC : F8 : AE : CE : 78 : 16.

IP address is a unique address that can be used to uniquely identify each node in network IPV₄ address looks like :

192 : 168 : 0 : 175

Based on above paragraph answer following question.

In MAC address later six drgits represents :

- (1) Unique Serial Number
- (2) Organisational Unique Identifier
- (3) NIC address
- (4) Host Serial Number

Options :

- 212807126881. 1
- 212807126882. 2
- 212807126883. 3
- 212807126884. 4

Question Number : 391 Question Id : 21280731721 Question Type : MCQ Option Shuffling : No Is Question Mandatory : No Calculator : None Response Time : N.A Think Time : N.A Minimum Instruction Time : 0

Correct Marks : 5 Wrong Marks : 1

Question Key Details :

Key	Value
Comprehension	Comp2

मैक एड्रेस एक भौतिक या हार्डवेयर एड्रेस है जो एन आई सी नामक नेटवर्क एडेप्टर से जुड़ा एक अनूठा मूल्य है मैक एड्रेस एक 12 अंकीय हेक्साडेसिमल संख्या है जिसे नीचे दिखाया गया है।

FC : F8 : AE : CE : 78 : 16.

आईपी एड्रेस एक अनूठा एड्रेस है जिसका उपयोग नेटवर्क IPV₄ एड्रेस में प्रत्येक नोड को विशिष्ट रूप से पहचानने के लिए किया जा सकता है:

192 : 168 : 0 : 175

उपरोक्त अनुच्छेद के आधार पर निम्नलिखित प्रश्न का उत्तर दीजिए :

मैक एड्रेस में बाद के छह अंक दर्शाता है :

- (1) यूनिक सिरियल नंबर
- (2) ऑर्गेनाइजेशनल यूनिक आइडेनटिफायर
- (3) एनआईसी एड्रेस
- (4) होस्ट सिरियल नंबर

Options :

- 212807126881. 1
- 212807126882. 2
- 212807126883. 3
- 212807126884. 4

Question Number : 392 Question Id : 21280731722 Question Type : MCQ Option Shuffling : No Is Question Mandatory : No Calculator : None Response Time : N.A Think Time : N.A Minimum Instruction Time : 0

Correct Marks : 5 Wrong Marks : 1

Question Key Details :

Key	Value
Comprehension	Comp2

MAC address is a physical or hardware address is a unique value associated with a network adapter called NIC. MAC address is a 12-drgit hexadecimal numbers shown as below :

FC : F8 : AE : CE : 78 : 16.

IP address is a unique address that can be used to uniquely identify each node in network IPV₄ address looks like :

192 : 168 : 0 : 175

Based on above paragraph answer following question.

In MAC address first six-drgits represents :

- (1) Unique Serial Number
- (2) Organisational Unique Identifier
- (3) NIC address
- (4) Host Serial Number

Options :

- 212807126885. 1
- 212807126886. 2
- 212807126887. 3
- 212807126888. 4

Question Number : 392 Question Id : 21280731722 Question Type : MCQ Option Shuffling : No Is Question Mandatory : No Calculator : None Response Time : N.A Think Time : N.A Minimum Instruction Time : 0

Correct Marks : 5 Wrong Marks : 1

Question Key Details :

Key	Value
Comprehension	Comp2

मैक एड्रेस एक भौतिक या हार्डवेयर एड्रेस है जो एन आई सी नामक नेटवर्क एडेप्टर से जुड़ा एक अनूठा मूल्य है मैक एड्रेस एक 12 अंकीय हेक्साडेसिमल संख्या है जिसे नीचे दिखाया गया है।

FC : F8 : AE : CE : 78 : 16.

आईपी एड्रेस एक अनूठा एड्रेस है जिसका उपयोग नेटवर्क IPV₄ एड्रेस में प्रत्येक नोड को विशिष्ट रूप से पहचानने के लिए किया जा सकता है:

192 : 168 : 0 : 175

उपरोक्त अनुच्छेद के आधार पर निम्नलिखित प्रश्न का उत्तर दीजिए :

मैक एड्रेस में पहले छह अंक दर्शाते हैं:

- (1) यूनिक सिरियल नंबर
- (2) ऑर्गेनाइजेशनल यूनिक आइडेनटिफायर
- (3) एनआईसी एड्रेस
- (4) होस्ट सिरियल नंबर

Options :

- 212807126885. 1
- 212807126886. 2
- 212807126887. 3

Question Number : 393 Question Id : 21280731723 Question Type : MCQ Option Shuffling : No Is Question Mandatory : No Calculator : None
Response Time : N.A Think Time : N.A Minimum Instruction Time : 0

Correct Marks : 5 Wrong Marks : 1

Question Key Details :

Key	Value
Comprehension	Comp2

MAC address is a physical or hardware address is a unique value associated with a network adapter called NIC. MAC address is a 12-drgit hexadecimal numbers shown as below :

FC : F8 : AE : CE : 78 : 16.

IP address is a unique address that can be used to uniquely identify each node in network IPV₄ address looks like :

192 : 168 : 0 : 175

Based on above paragraph answer following question.

What is the full form of MAC address ?

- (1) Medra Access Control
- (2) Medrum Access Control
- (3) Mobile Access Control
- (4) Medra Access Controller

Options :

212807126889. 1

212807126890. 2

212807126891. 3

212807126892. 4

Question Number : 393 Question Id : 21280731723 Question Type : MCQ Option Shuffling : No Is Question Mandatory : No Calculator : None
Response Time : N.A Think Time : N.A Minimum Instruction Time : 0

Correct Marks : 5 Wrong Marks : 1

Question Key Details :

Key	Value
Comprehension	Comp2

मैक एड्रेस एक भौतिक या हार्डवेयर एड्रेस है जो एन आई सी नामक नेटवर्क एडेप्टर से जुड़ा एक अनूठा मूल्य है मैक एड्रेस एक 12 अंकीय हेक्साडेसिमल संख्या है जिसे नीचे दिखाया गया है।

FC : F8 : AE : CE : 78 : 16.

आईपी एड्रेस एक अनूठा एड्रेस है जिसका उपयोग नेटवर्क IPV₄ एड्रेस में प्रत्येक नोड को विशिष्ट रूप से पहचानने के लिए किया जा सकता है:

192 : 168 : 0 : 175

उपरोक्त अनुच्छेद के आधार पर निम्नलिखित प्रश्न का उत्तर दीजिए :

मैक एड्रेस का फुल फार्म क्या है?

- (1) मीडिया एक्सेस कंट्रोल
- (2) मीडियम एक्सेस कंट्रोल
- (3) मोबाइल एक्सेस कंट्रोल
- (4) मीडिया एक्सेस कंट्रोलर

Options :

- 212807126889. 1
- 212807126890. 2
- 212807126891. 3
- 212807126892. 4

Question Number : 394 Question Id : 21280731724 Question Type : MCQ Option Shuffling : No Is Question Mandatory : No Calculator : None Response Time : N.A Think Time : N.A Minimum Instruction Time : 0

Correct Marks : 5 Wrong Marks : 1

Question Key Details :

Key	Value
Comprehension	Comp2

MAC address is a physical or hardware address is a unique value associated with a network adapter called NIC. MAC address is a 12-drgit hexadecimal numbers shown as below :

FC : F8 : AE : CE : 78 : 16.

IP address is a unique address that can be used to uniquely identify each node in network IPV₄ address looks like :

192 : 168 : 0 : 175

Based on above paragraph answer following question.

How many bits in MAC and IP address have :

- (1) 40, 32 bit
- (2) 32, 48 bit
- (3) 48, 32 bit
- (4) 56, 32 bit

Options :

- 212807126893. 1
- 212807126894. 2
- 212807126895. 3
- 212807126896. 4

Question Number : 394 Question Id : 21280731724 Question Type : MCQ Option Shuffling : No Is Question Mandatory : No Calculator : None Response Time : N.A Think Time : N.A Minimum Instruction Time : 0

Correct Marks : 5 Wrong Marks : 1

Question Key Details :

Key	Value
Comprehension	Comp2

मैक एड्रेस एक भौतिक या हार्डवेयर एड्रेस है जो एन आई सी नामक नेटवर्क एडेप्टर से जुड़ा एक अनूठा मूल्य है मैक एड्रेस एक 12 अंकीय हेक्साडेसिमल संख्या है जिसे नीचे दिखाया गया है।

FC : F8 : AE : CE : 78 : 16.

आईपी एड्रेस एक अनूठा एड्रेस है जिसका उपयोग नेटवर्क IPV₄ एड्रेस में प्रत्येक नोड को विशिष्ट रूप से पहचानने के लिए किया जा सकता है:

192 : 168 : 0 : 175

उपरोक्त अनुच्छेद के आधार पर निम्नलिखित प्रश्न का उत्तर दीजिए :

मैक और आईपी एड्रेस में कितने बिट्स होते हैं :

- (1) 40, 32 बिट
- (2) 32, 48 बिट
- (3) 48, 32 बिट
- (4) 56, 32 बिट

Options :

212807126893. 1
212807126894. 2
212807126895. 3
212807126896. 4

Question Number : 395 Question Id : 21280731725 Question Type : MCQ Option Shuffling : No Is Question Mandatory : No Calculator : None Response Time : N.A Think Time : N.A Minimum Instruction Time : 0

Correct Marks : 5 Wrong Marks : 1

Question Key Details :

Key	Value
Comprehension	Comp2

MAC address is a physical or hardware address is a unique value associated with a network adapter called NIC. MAC address is a 12-digit hexadecimal numbers shown as below :

FC : F8 : AE : CE : 78 : 16.

IP address is a unique address that can be used to uniquely identify each node in network IPV₄ address looks like :

192 : 168 : 0 : 175

Based on above paragraph answer following question.

Which of the following statement is false about IP address :

- (1) It is a Internet Protocol address
- (2) IP address can change if a node is removed from one network to other
- (3) IP address is not a unique address
- (4) We can communicate with the computer from anywhere if we know the IP address

Options :

212807126897. 1
212807126898. 2
212807126899. 3
212807126900. 4

Question Number : 395 Question Id : 21280731725 Question Type : MCQ Option Shuffling : No Is Question Mandatory : No Calculator : None Response Time : N.A Think Time : N.A Minimum Instruction Time : 0

Correct Marks : 5 Wrong Marks : 1

Question Key Details :

Key	Value
Comprehension	Comp2

मैक एड्रेस एक भौतिक या हार्डवेयर एड्रेस है जो एन आई सी नामक नेटवर्क एडेप्टर से जुड़ा एक अनूठा मूल्य है मैक एड्रेस एक 12 अंकीय हेक्साडेसिमल संख्या है जिसे नीचे दिखाया गया है।

FC : F8 : AE : CE : 78 : 16.

आईपी एड्रेस एक अनूठा एड्रेस है जिसका उपयोग नेटवर्क IPV₄ एड्रेस में प्रत्येक नोड को विशिष्ट रूप से पहचानने के लिए किया जा सकता है:

192 : 168 : 0 : 175

उपरोक्त अनुच्छेद के आधार पर निम्नलिखित प्रश्न का उत्तर दीजिए :

आईपी एड्रेस के बारे में कौन सा कथन गलत है :

- (1) यह एक इंटरनेट प्रोटोकॉल एड्रेस है
- (2) यदि एक नोड को एक नेटवर्क से दूसरे नेटवर्क से हटा दिया जाता है तो आईपी एड्रेस बदल सकता है
- (3) आईपी एड्रेस एक यूनिक एड्रेस नहीं है
- (4) अगर हमें आईपी एड्रेस पता है तो हम कहीं से भी कम्प्यूटर से संचार कर सकते हैं

Options :

212807126897. 1

212807126898. 2

212807126899. 3

212807126900. 4

Sub-Section Number :

4

Sub-Section Id :

2128072506

Question Shuffling Allowed :

Yes

Is Section Default? :

null

Question Number : 396 Question Id : 21280731726 Question Type : MCQ Option Shuffling : No Is Question Mandatory : No Calculator : None

Response Time : N.A Think Time : N.A Minimum Instruction Time : 0

Correct Marks : 5 Wrong Marks : 1

Question Key Details :

Key	Value
Comprehension	MCQ3

If on applying a hash function, every items of a list maps to unique index in the hash table it is called.

- (1) Complete hash function
- (2) Total hash function
- (3) Remainder hash function
- (4) Perfect hash function

Options :

212807126901. 1

212807126902. 2

212807126903. 3

212807126904. 4

Question Number : 396 Question Id : 21280731726 Question Type : MCQ Option Shuffling : No Is Question Mandatory : No Calculator : None

Response Time : N.A Think Time : N.A Minimum Instruction Time : 0

Correct Marks : 5 Wrong Marks : 1

Question Key Details :

Key	Value
-----	-------

यदि हैश फंक्शन लागू करने पर , सूची के प्रत्येक आइटम को हैश तालिका यूनिक इंडेक्स में मैप किया जाता है, तो इसे कहा जाता है।

- (1) पूर्ण हैश फंक्शन
- (2) कुल हैश फंक्शन
- (3) शेष हैश फंक्शन
- (4) पर्फेक्ट हैश फंक्शन

Options :

212807126901. 1
212807126902. 2
212807126903. 3
212807126904. 4

Question Number : 397 Question Id : 21280731727 Question Type : MCQ Option Shuffling : No Is Question Mandatory : No Calculator : None
Response Time : N.A Think Time : N.A Minimum Instruction Time : 0

Correct Marks : 5 Wrong Marks : 1

Question Key Details :

Key	Value
Comprehension	MCQ3

Consider a list $[-2, 0, 3, 5, 9, 11, 13]$. Apply binary search to find element -2 . Determine the number of key comparison required ?

- (1) 2
- (2) 3
- (3) 4
- (4) 1

Options :

212807126905. 1
212807126906. 2
212807126907. 3
212807126908. 4

Question Number : 397 Question Id : 21280731727 Question Type : MCQ Option Shuffling : No Is Question Mandatory : No Calculator : None
Response Time : N.A Think Time : N.A Minimum Instruction Time : 0

Correct Marks : 5 Wrong Marks : 1

Question Key Details :

Key	Value
Comprehension	MCQ3

एक सूची $[-2, 0, 3, 5, 9, 11, 13]$ पर विचार करें। तत्व -2 खोजने के लिए बाइनरी सर्च लागू करें। प्रमुख तुलनाओं की संख्या निर्धारित करें ?

- (1) 2
- (2) 3
- (3) 4
- (4) 1

Options :

212807126905. 1
212807126906. 2
212807126907. 3
212807126908. 4

Question Number : 398 Question Id : 21280731728 Question Type : MCQ Option Shuffling : No Is Question Mandatory : No Calculator : None
Response Time : N.A Think Time : N.A Minimum Instruction Time : 0

Correct Marks : 5 Wrong Marks : 1

Question Key Details :

Key	Value
Comprehension	MCQ3

Which of the following technique of searching compares every element of list where the list can be in any order ?

- (1) Binary search
- (2) Linear search
- (3) Heap search
- (4) Hashing search

Options :

- 212807126909. 1
- 212807126910. 2
- 212807126911. 3
- 212807126912. 4

Question Number : 398 Question Id : 21280731728 Question Type : MCQ Option Shuffling : No Is Question Mandatory : No Calculator : None
Response Time : N.A Think Time : N.A Minimum Instruction Time : 0

Correct Marks : 5 Wrong Marks : 1

Question Key Details :

Key	Value
Comprehension	MCQ3

खोज की निम्न में से कौन सी तकनीक सूची के प्रत्येक तत्व को तुलना करती है जहाँ सूची किसी भी क्रम में हो सकती है।

- (1) बाइनरी सर्च
- (2) रेखीय सर्च
- (3) हिप सर्च
- (4) हैशिंग सर्च

Options :

- 212807126909. 1
- 212807126910. 2
- 212807126911. 3
- 212807126912. 4

Question Number : 399 Question Id : 21280731729 Question Type : MCQ Option Shuffling : No Is Question Mandatory : No Calculator : None
Response Time : N.A Think Time : N.A Minimum Instruction Time : 0

Correct Marks : 5 Wrong Marks : 1

Question Key Details :

Key	Value
Comprehension	MCQ3

Match List - I with List - II.

List - I	List - II
(A) Mean	(I) Average of given values
(B) Median	(II) Mid value when data are sorted in ascending/descending order
(C) Mode	(III) Data value that appears most number of times
(D) Range	(IV) It is the difference between the maximum and minimum values

Choose the correct answer from the options given below :

- (1) (A)-(IV), (B)-(I), (C)-(II), (D)-(III)
- (2) (A)-(I), (B)-(IV), (C)-(II), (D)-(III)
- (3) (A)-(I), (B)-(III), (C)-(II), (D)-(IV)
- (4) (A)-(I), (B)-(II), (C)-(III), (D)-(IV)

Options :

212807126913. 1
212807126914. 2
212807126915. 3
212807126916. 4

Question Number : 399 Question Id : 21280731729 Question Type : MCQ Option Shuffling : No Is Question Mandatory : No Calculator : None
Response Time : N.A Think Time : N.A Minimum Instruction Time : 0

Correct Marks : 5 Wrong Marks : 1

Question Key Details :

Key	Value
Comprehension	MCQ3

सूची-I से सूची-II का मिलान कीजिए :

सूची-I	सूची-II
(A) माध्य	(I) दिए गए मानों का औसत
(B) माध्यिका	(II) मध्य मान जब डेटा आरोही/अवरोही क्रम में सॉर्ट किया जाता है
(C) बहुलक	(III) डेटा का मान जो सबसे अधिक बार प्रकट होता है
(D) परास	(IV) यह अधिकतम और न्यूनतम मूल्यों के बीच का अंतर है

नीचे दिए गए विकल्पों में से सही उत्तर का चयन कीजिए :

- (1) (A)-(IV), (B)-(I), (C)-(II), (D)-(III)
- (2) (A)-(I), (B)-(IV), (C)-(II), (D)-(III)
- (3) (A)-(I), (B)-(III), (C)-(II), (D)-(IV)
- (4) (A)-(I), (B)-(II), (C)-(III), (D)-(IV)

Options :

212807126913. 1
212807126914. 2
212807126915. 3
212807126916. 4

Question Number : 400 Question Id : 21280731730 Question Type : MCQ Option Shuffling : No Is Question Mandatory : No Calculator : None
Response Time : N.A Think Time : N.A Minimum Instruction Time : 0

Correct Marks : 5 Wrong Marks : 1

Question Key Details :

Key	Value
Comprehension	MCQ3

Standard deviation is :

- (1) the positive square of average of squared difference of each value from the mean.
- (2) the positive square root of the average of squared difference of each value from the mean.
- (3) the square root of the average of each value from the mean.
- (4) the square of the average of each value from the mean.

Options :

- 212807126917. 1
- 212807126918. 2
- 212807126919. 3
- 212807126920. 4

Question Number : 400 Question Id : 21280731730 Question Type : MCQ Option Shuffling : No Is Question Mandatory : No Calculator : None
Response Time : N.A Think Time : N.A Minimum Instruction Time : 0

Correct Marks : 5 Wrong Marks : 1

Question Key Details :

Key	Value
Comprehension	MCQ3

मानक विचलन है :

- (1) माध्य से प्रत्येक मान के वर्ग अंतर के औसत का धनात्मक वर्ग
- (2) माध्य से प्रत्येक मान के वर्ग अंतर के औसत का धनात्मक वर्गमूल
- (3) माध्य से प्रत्येक मान के औसत का वर्गमूल
- (4) माध्य से प्रत्येक मान के औसत का वर्ग

Options :

- 212807126917. 1
- 212807126918. 2
- 212807126919. 3
- 212807126920. 4

Informatics Practices

Section Id :	212807870
Section Number :	3
Section type :	Online
Mandatory or Optional :	Optional
Number of Questions :	35
Number of Questions to be attempted :	25
Section Marks :	125
Enable Mark as Answered Mark for Review and Clear Response :	Yes
Maximum Instruction Time :	0
Sub-Section Number :	1
Sub-Section Id :	2128072507
Question Shuffling Allowed :	Yes
Is Section Default? :	null

Question Number : 401 Question Id : 21280731731 Question Type : MCQ Option Shuffling : No Is Question Mandatory : No Calculator : None
Response Time : N.A Think Time : N.A Minimum Instruction Time : 0

Correct Marks : 5 Wrong Marks : 1

Question Key Details :

Key	Value
Comprehension	MCQ4

What will be the output for the following code ?

```
SELECT ROUND(566.232, - 2);
```

- (1) 500.0
- (2) 566.0
- (3) 56.6232
- (4) 600.0

Options :

212807126921. 1

212807126922. 2

212807126923. 3

212807126924. 4

Question Number : 401 Question Id : 21280731731 Question Type : MCQ Option Shuffling : No Is Question Mandatory : No Calculator : None
Response Time : N.A Think Time : N.A Minimum Instruction Time : 0

Correct Marks : 5 Wrong Marks : 1

Question Key Details :

Key	Value
Comprehension	MCQ4

निम्नलिखित कोड का आउटपुट क्या होगा ?

```
SELECT ROUND(566.232, - 2);
```

- (1) 500.0
- (2) 566.0
- (3) 56.6232
- (4) 600.0

Options :

212807126921. 1

212807126922. 2

212807126923. 3

212807126924. 4

Question Number : 402 Question Id : 21280731732 Question Type : MCQ Option Shuffling : No Is Question Mandatory : No Calculator : None
Response Time : N.A Think Time : N.A Minimum Instruction Time : 0

Correct Marks : 5 Wrong Marks : 1

Question Key Details :

Key	Value
Comprehension	MCQ4

Which of the following functions is not an aggregate function ?

- (1) ROUND()
- (2) SUM()
- (3) COUNT()
- (4) AVG()

Options :

212807126925. 1

212807126926. 2

212807126927. 3

212807126928. 4

Question Number : 402 Question Id : 21280731732 Question Type : MCQ Option Shuffling : No Is Question Mandatory : No Calculator : None
Response Time : N.A Think Time : N.A Minimum Instruction Time : 0

Correct Marks : 5 Wrong Marks : 1

Question Key Details :

Key	Value
Comprehension	MCQ4

निम्नलिखित में से कौन सा फंक्शन एक एग्रीगेट फंक्शन नहीं है

- (1) ROUND()
- (2) SUM()
- (3) COUNT()
- (4) AVG()

Options :

212807126925. 1
212807126926. 2
212807126927. 3
212807126928. 4

Question Number : 403 Question Id : 21280731733 Question Type : MCQ Option Shuffling : No Is Question Mandatory : No Calculator : None
Response Time : N.A Think Time : N.A Minimum Instruction Time : 0

Correct Marks : 5 Wrong Marks : 1

Question Key Details :

Key	Value
Comprehension	MCQ4

If Table T1 has 10 records and Table T2 has 20 records what will be the cardinality of $T1 \times T2$ (Cartesian product of two tables).

- (1) 10
- (2) 20
- (3) 30
- (4) 200

Options :

212807126929. 1
212807126930. 2
212807126931. 3
212807126932. 4

Question Number : 403 Question Id : 21280731733 Question Type : MCQ Option Shuffling : No Is Question Mandatory : No Calculator : None
Response Time : N.A Think Time : N.A Minimum Instruction Time : 0

Correct Marks : 5 Wrong Marks : 1

Question Key Details :

Key	Value
Comprehension	MCQ4

यदि तालिका T1 के पास 10 रिकॉर्ड और तालिका T2 के पास 20 रिकॉर्ड है तो $T1 \times T2$ की कार्डिनेलिटी क्या होगी। (दो तालिका का कार्टेजियन प्रोडक्ट)

- (1) 10
- (2) 20
- (3) 30
- (4) 200

Options :

212807126929. 1
212807126930. 2
212807126931. 3
212807126932. 4

Question Number : 404 Question Id : 21280731734 Question Type : MCQ Option Shuffling : No Is Question Mandatory : No Calculator : None
Response Time : N.A Think Time : N.A Minimum Instruction Time : 0

Correct Marks : 5 Wrong Marks : 1

Question Key Details :

Key	Value
Comprehension	MCQ4

Union, intersection and minus can be applied between two tables if :

- (1) They have same cardinality.
- (2) They have same degree with any type of data in each table.
- (3) They have same same degree and cardinality.
- (4) They have same degree and corresponding attributes have same domain.

Options :

212807126933. 1

212807126934. 2

212807126935. 3

212807126936. 4

Question Number : 404 Question Id : 21280731734 Question Type : MCQ Option Shuffling : No Is Question Mandatory : No Calculator : None
Response Time : N.A Think Time : N.A Minimum Instruction Time : 0

Correct Marks : 5 Wrong Marks : 1

Question Key Details :

Key	Value
Comprehension	MCQ4

यूनियन, इंटरसेक्शन और माइनस को दो तालिकाओं के बीच लागू किया जा सकता है यदि :

- (1) उनके पास समान कार्डिनैलिटी है
- (2) उनके पास प्रत्येक तालिका में किसी भी प्रकार के डेटा के साथ समान डिग्री है।
- (3) उनके पास डिग्री और कार्डिनैलिटी है।
- (4) उनके पास एक ही डिग्री है और संबंधित एट्रिब्यूट्स का एक ही डोमेन है।

Options :

212807126933. 1

212807126934. 2

212807126935. 3

212807126936. 4

Question Number : 405 Question Id : 21280731735 Question Type : MCQ Option Shuffling : No Is Question Mandatory : No Calculator : None
Response Time : N.A Think Time : N.A Minimum Instruction Time : 0

Correct Marks : 5 Wrong Marks : 1

Question Key Details :

Key	Value
Comprehension	MCQ4

Which of the following statements is correct about Dataframe ?

- (A) Dataframe is size-mutable
- (B) Dataframe is values-mutable
- (C) Dataframe is immutable
- (D) Dataframe is capable of holding multiple types of Data.
- (E) Dataframe has no columns.

Choose the correct answer from the options given below :

- (1) (A), (B) and (E) only
- (2) (A), (B) and (D) only
- (3) (A), (B) and (C) only
- (4) (A), (D) and (E) only

Options :

212807126937. 1

212807126938. 2

212807126939. 3

212807126940. 4

Question Number : 405 Question Id : 21280731735 Question Type : MCQ Option Shuffling : No Is Question Mandatory : No Calculator : None
Response Time : N.A Think Time : N.A Minimum Instruction Time : 0

Correct Marks : 5 Wrong Marks : 1

Question Key Details :

Key	Value
Comprehension	MCQ4

निम्नलिखित में से कौन सा कथन डेटाफ्रेम के बारे में सही है ?

- (A) डेटाफ्रेम का आकार-परिवर्तनीय है
- (B) डेटाफ्रेम का मान परिवर्तनीय है
- (C) डेटाफ्रेम अपरिवर्तनीय है
- (D) डेटाफ्रेम कई प्रकार के डेटा रखने में सक्षम है।
- (E) डेटाफ्रेम के पास कोई कॉलम नहीं है।

नीचे दिए गए विकल्पों में से सही उत्तर चुनिए :

- (1) केवल (A), (B) और (E)
- (2) केवल (A), (B) और (D)
- (3) केवल (A), (B) और (C)
- (4) केवल (A), (D) और (E)

Options :

212807126937. 1

212807126938. 2

212807126939. 3

212807126940. 4

Question Number : 406 Question Id : 21280731736 Question Type : MCQ Option Shuffling : No Is Question Mandatory : No Calculator : None
Response Time : N.A Think Time : N.A Minimum Instruction Time : 0

Correct Marks : 5 Wrong Marks : 1

Question Key Details :

Key	Value
Comprehension	MCQ4

Choose the correct statement to display the standard deviation of the values of a Dataframe named df :

- (1) df.standard()
- (2) df.std_dev()
- (3) df.std.dev()
- (4) df.std()

Options :

- 212807126941. 1
- 212807126942. 2
- 212807126943. 3
- 212807126944. 4

Question Number : 406 Question Id : 21280731736 Question Type : MCQ Option Shuffling : No Is Question Mandatory : No Calculator : None Response Time : N.A Think Time : N.A Minimum Instruction Time : 0

Correct Marks : 5 Wrong Marks : 1

Question Key Details :

Key	Value
Comprehension	MCQ4

df नामक डेटाफ्रेम के मानों के मानक विचलन को प्रदर्शित करने के लिए सही कथनों का चयन करें:

- (1) df.standard()
- (2) df.std_dev()
- (3) df.std.dev()
- (4) df.std()

Options :

- 212807126941. 1
- 212807126942. 2
- 212807126943. 3
- 212807126944. 4

Question Number : 407 Question Id : 21280731737 Question Type : MCQ Option Shuffling : No Is Question Mandatory : No Calculator : None Response Time : N.A Think Time : N.A Minimum Instruction Time : 0

Correct Marks : 5 Wrong Marks : 1

Question Key Details :

Key	Value
Comprehension	MCQ4

Choose the correct statement to display the median using quantile function if the name of the Dataframe is df :

- (1) df.quantile()
- (2) df.quantile(q = .25)
- (3) df.quantile(q = .75)
- (4) df.quantile(q = median)

Options :

- 212807126945. 1
- 212807126946. 2
- 212807126947. 3
- 212807126948. 4

Question Number : 407 Question Id : 21280731737 Question Type : MCQ Option Shuffling : No Is Question Mandatory : No Calculator : None Response Time : N.A Think Time : N.A Minimum Instruction Time : 0

Correct Marks : 5 Wrong Marks : 1

Question Key Details :

Key	Value
Comprehension	MCQ4

यदि डेटाफ्रेम का नाम df है, तो क्वांटाइल फंक्शन का उपयोग करके माध्यिका प्रदर्शित करने के लिए सही कथन चुने :

- (1) df.quantile()
- (2) df.quantile(q = .25)
- (3) df.quantile(q = .75)
- (4) df.quantile(q = median)

Options :

- 212807126945. 1
- 212807126946. 2
- 212807126947. 3
- 212807126948. 4

Question Number : 408 Question Id : 21280731738 Question Type : MCQ Option Shuffling : No Is Question Mandatory : No Calculator : None
Response Time : N.A Think Time : N.A Minimum Instruction Time : 0

Correct Marks : 5 Wrong Marks : 1

Question Key Details :

Key	Value
Comprehension	MCQ4

Rohit wants to display the descriptive statistical values in a dataframe named 'df' using a single command. Help him to choose the correct one from the following options.

- (1) df.std()
- (2) df.standard()
- (3) df.describe()
- (4) df.stddev()

Options :

- 212807126949. 1
- 212807126950. 2
- 212807126951. 3
- 212807126952. 4

Question Number : 408 Question Id : 21280731738 Question Type : MCQ Option Shuffling : No Is Question Mandatory : No Calculator : None
Response Time : N.A Think Time : N.A Minimum Instruction Time : 0

Correct Marks : 5 Wrong Marks : 1

Question Key Details :

Key	Value
Comprehension	MCQ4

रोहित वर्णनात्मक संख्यिकीय मानों को एक कमांड का उपयोग करके 'df' नामक डेटाफ्रेम में प्रदर्शित करना चाहते हैं। निम्नलिखित विकल्पों में से सही विकल्प चुनने में उसकी मदद करें।

- (1) df.std()
- (2) df.standard()
- (3) df.describe()
- (4) df.stddev()

Options :

- 212807126949. 1
- 212807126950. 2
- 212807126951. 3
- 212807126952. 4

Question Number : 409 Question Id : 21280731739 Question Type : MCQ Option Shuffling : No Is Question Mandatory : No Calculator : None
Response Time : N.A Think Time : N.A Minimum Instruction Time : 0

Correct Marks : 5 Wrong Marks : 1

Question Key Details :

Key	Value
Comprehension	MCQ4

A box and whisker plot summarizes following important data descriptors.

- (1) Quartile 1, but not Quartile 2, Median, Quartile 4 and maximum value
- (2) Minimum value, quartile 1, median, quartile 3, maximum value
- (3) Minimum value, maximum value, but not median
- (4) Only outliers

Options :

- 212807126953. 1
- 212807126954. 2
- 212807126955. 3
- 212807126956. 4

Question Number : 409 Question Id : 21280731739 Question Type : MCQ Option Shuffling : No Is Question Mandatory : No Calculator : None
Response Time : N.A Think Time : N.A Minimum Instruction Time : 0

Correct Marks : 5 Wrong Marks : 1

Question Key Details :

Key	Value
Comprehension	MCQ4

एक बॉक्स और व्हिस्कर प्लॉट निम्नलिखित महत्वपूर्ण डेटा विवरण को सारंशित करता है :

- (1) क्वार्टाइल 1, लेकिन क्वार्टाइल 2 नहीं, माध्यिका, क्वार्टाइल 4 और अधिकतम मान
- (2) न्यूनतम मान, क्वार्टाइल 1, माध्यिका, क्वार्टाइल 3, अधिकतम मान
- (3) न्यूनतम मान, अधिकतम मान, लेकिन माध्यिका नहीं
- (4) केवल आउटलायर्स

Options :

- 212807126953. 1
- 212807126954. 2
- 212807126955. 3
- 212807126956. 4

Question Number : 410 Question Id : 21280731740 Question Type : MCQ Option Shuffling : No Is Question Mandatory : No Calculator : None
Response Time : N.A Think Time : N.A Minimum Instruction Time : 0

Correct Marks : 5 Wrong Marks : 1

Question Key Details :

Key	Value
Comprehension	MCQ4

Arrange the following statements to create a bar chart :

- (A) `import matplotlib.pyplot as plt`
- (B) `y = [50, 60, 70]`
- (C) `plt.plot(x, y)`
`plt.show()`
- (D) `plt.bar(x, y)`
`plt.show()`
- (E) `x = ['Mon', 'Tue', 'Wed']`

Choose the correct answer from the options given below :

- (1) (A), (E), (B), (D)
- (2) (A), (E), (B), (C)
- (3) (A), (B), (C), (D)
- (4) (A), (B), (E), (C)

Options :

- 212807126957. 1
- 212807126958. 2
- 212807126959. 3
- 212807126960. 4

Question Number : 410 Question Id : 21280731740 Question Type : MCQ Option Shuffling : No Is Question Mandatory : No Calculator : None
Response Time : N.A Think Time : N.A Minimum Instruction Time : 0

Correct Marks : 5 Wrong Marks : 1

Question Key Details :

Key	Value
Comprehension	MCQ4

बार चार्ट बनाने के लिए निम्नलिखित कथनों को व्यवस्थित करें :

- (A) `import matplotlib.pyplot as plt`
- (B) `y = [50, 60, 70]`
- (C) `plt.plot(x, y)`
`plt.show()`
- (D) `plt.bar(x, y)`
`plt.show()`
- (E) `x = ['Mon', 'Tue', 'Wed']`

निम्नलिखित विकल्पों में सही उत्तर का चुनाव करें :

- (1) (A), (E), (B), (D)
- (2) (A), (E), (B), (C)
- (3) (A), (B), (C), (D)
- (4) (A), (B), (E), (C)

Options :

- 212807126957. 1
- 212807126958. 2
- 212807126959. 3
- 212807126960. 4

Question Number : 411 Question Id : 21280731741 Question Type : MCQ Option Shuffling : No Is Question Mandatory : No Calculator : None
Response Time : N.A Think Time : N.A Minimum Instruction Time : 0

Correct Marks : 5 Wrong Marks : 1

Question Key Details :

Key	Value
Comprehension	MCQ4

Study the statements linked to the plotting graph using matplotlib.

- (A) plot() function is used to create a line chart
- (B) show() function display graph on screen
- (C) x label() is used to given label for x axis
- (D) y axis() is used to give label for y axis
- (E) matplotlib.pyplot library is to be imported for graphs

Choose the correct answer from the options given below :

- (1) (A), (B), (C), (D) and (E)
- (2) (A), (B), (C) and (D)
- (3) (A), (B), (D) and (E)
- (4) (A), (B), (C) and (E)

Options :

- 212807126961. 1
- 212807126962. 2
- 212807126963. 3
- 212807126964. 4

Question Number : 411 Question Id : 21280731741 Question Type : MCQ Option Shuffling : No Is Question Mandatory : No Calculator : None
Response Time : N.A Think Time : N.A Minimum Instruction Time : 0
Correct Marks : 5 Wrong Marks : 1

Question Key Details :

Key	Value
Comprehension	MCQ4

matplotlib का उपयोग करके प्लॉटिंग ग्राफ से जुड़े कथनों का अध्ययन करें।

- (A) plot() फंक्शन का उपयोग लाइन चार्ट बनाने के लिए किया जाता है
- (B) show() फंक्शन स्क्रीन पर ग्राफ प्रदर्शित करता है
- (C) x label() का उपयोग x अक्ष के लिए दिए गए लेबल के लिए किया जाता है
- (D) y axis() का उपयोग y अक्ष के लिए दिए गए लेबल के लिए किया जाता है
- (E) matplotlib.pyplot लाइब्रेरी को ग्राफ के लिए इम्पोर्ट किया जाता है

नीचे दिए गए विकल्पों में सही उत्तर का चुनाव करें :

- (1) (A), (B), (C), (D) और (E)
- (2) (A), (B), (C) और (D)
- (3) (A), (B), (D) और (E)
- (4) (A), (B), (C) और (E)

Options :

- 212807126961. 1
- 212807126962. 2
- 212807126963. 3
- 212807126964. 4

Question Number : 412 Question Id : 21280731742 Question Type : MCQ Option Shuffling : No Is Question Mandatory : No Calculator : None
Response Time : N.A Think Time : N.A Minimum Instruction Time : 0
Correct Marks : 5 Wrong Marks : 1

Question Key Details :

Key	Value
Comprehension	MCQ4

What inference can you make out of the following code ?

```
plt.plot(x, y)
plt.plot(x, z)
plt.legend(loc = "upper left")
```

- (1) Line graph with legend will be plotted
- (2) Line graph with legend will not print
- (3) Line graph will only be printed/plotted
- (4) Only legend will be seen

Options :

212807126965. 1
212807126966. 2
212807126967. 3
212807126968. 4

Question Number : 412 Question Id : 21280731742 Question Type : MCQ Option Shuffling : No Is Question Mandatory : No Calculator : None
Response Time : N.A Think Time : N.A Minimum Instruction Time : 0

Correct Marks : 5 Wrong Marks : 1

Question Key Details :

Key	Value
Comprehension	MCQ4

निम्नलिखित कोड से आप कौन सा इंटरफेस बना सकते हैं ?

```
plt.plot(x, y)
plt.plot(x, z)
plt.legend(loc = "upper left")
```

- (1) लीजेंड के साथ लाइन ग्राफ प्लॉट किया जाएगा।
- (2) लीजेंड के साथ लाइन ग्राफ प्रिंट नहीं होगा।
- (3) लाइन ग्राफकेवल प्रिंट/प्लॉट किया जाएगा।
- (4) केवल लीजेड दिखाई देगा।

Options :

212807126965. 1
212807126966. 2
212807126967. 3
212807126968. 4

Question Number : 413 Question Id : 21280731743 Question Type : MCQ Option Shuffling : No Is Question Mandatory : No Calculator : None
Response Time : N.A Think Time : N.A Minimum Instruction Time : 0

Correct Marks : 5 Wrong Marks : 1

Question Key Details :

Key	Value
Comprehension	MCQ4

Which of the following is not a browser ?

- (1) WWW
- (2) Google chrome
- (3) Opera
- (4) UC

Options :

212807126969. 1
212807126970. 2
212807126971. 3
212807126972. 4

Question Number : 413 Question Id : 21280731743 Question Type : MCQ Option Shuffling : No Is Question Mandatory : No Calculator : None
Response Time : N.A Think Time : N.A Minimum Instruction Time : 0

Correct Marks : 5 Wrong Marks : 1

Question Key Details :

Key	Value
Comprehension	MCQ4

निम्न में कौन सा एक ब्राउज़र नहीं है ?

- (1) WWW
- (2) Google chrome
- (3) Opera
- (4) UC

Options :

212807126969. 1
212807126970. 2
212807126971. 3
212807126972. 4

Question Number : 414 Question Id : 21280731744 Question Type : MCQ Option Shuffling : No Is Question Mandatory : No Calculator : None
Response Time : N.A Think Time : N.A Minimum Instruction Time : 0

Correct Marks : 5 Wrong Marks : 1

Question Key Details :

Key	Value
Comprehension	MCQ4

Electronic mail cannot be used for _____.

- (1) Sending documents
- (2) Sending bulk data
- (3) Sending attachments
- (4) Sending messages

Options :

212807126973. 1
212807126974. 2
212807126975. 3
212807126976. 4

Question Number : 414 Question Id : 21280731744 Question Type : MCQ Option Shuffling : No Is Question Mandatory : No Calculator : None
Response Time : N.A Think Time : N.A Minimum Instruction Time : 0

Correct Marks : 5 Wrong Marks : 1

Question Key Details :

Key	Value
Comprehension	MCQ4

इलेक्ट्रॉनिक ई-मेल का उपयोग _____ के लिए नहीं किया जा सकता है।

- (1) दस्तावेज भोजना
- (2) थोक डेटा भोजना
- (3) संलग्नक भोजना
- (4) संदेश भोजना

Options :

212807126973. 1
212807126974. 2
212807126975. 3
212807126976. 4

Question Number : 415 Question Id : 21280731745 Question Type : MCQ Option Shuffling : No Is Question Mandatory : No Calculator : None
Response Time : N.A Think Time : N.A Minimum Instruction Time : 0

Correct Marks : 5 Wrong Marks : 1

Question Key Details :

Key	Value
Comprehension	MCQ4

Besides routing data packets, _____ also maintain information about the host network's internal connection paths and the identified paths of other remote networks.

- (1) Hub
- (2) Switch
- (3) Bridge
- (4) Gateway

Options :

212807126977. 1
212807126978. 2
212807126979. 3
212807126980. 4

Question Number : 415 Question Id : 21280731745 Question Type : MCQ Option Shuffling : No Is Question Mandatory : No Calculator : None
Response Time : N.A Think Time : N.A Minimum Instruction Time : 0

Correct Marks : 5 Wrong Marks : 1

Question Key Details :

Key	Value
Comprehension	MCQ4

डेटा पैकेटों को रूट करने के अलावा _____ होस्ट नेटवर्क के आंतरिक कनेक्शन पथों और अन्य दूरस्थ नेटवर्कों के लिए पहचाने गए पथों के बारे में जानकारी भी बनाए।

- (1) हब
- (2) स्वीच
- (3) ब्रिज
- (4) गेटवे

Options :

212807126977. 1
212807126978. 2
212807126979. 3
212807126980. 4

Question Number : 416 Question Id : 21280731746 Question Type : MCQ Option Shuffling : No Is Question Mandatory : No Calculator : None
Response Time : N.A Think Time : N.A Minimum Instruction Time : 0

Correct Marks : 5 Wrong Marks : 1

Question Key Details :

Key	Value
Comprehension	MCQ4

Which waves having frequency range of 300 GHz – 400 THz ?

- (1) Radio wave
- (2) Micro wave
- (3) Light wave
- (4) Infrared wave

Options :

- 212807126981. 1
- 212807126982. 2
- 212807126983. 3
- 212807126984. 4

Question Number : 416 Question Id : 21280731746 Question Type : MCQ Option Shuffling : No Is Question Mandatory : No Calculator : None
Response Time : N.A Think Time : N.A Minimum Instruction Time : 0

Correct Marks : 5 Wrong Marks : 1

Question Key Details :

Key	Value
Comprehension	MCQ4

किन तरंगों की आवृत्ति रेंज 300 – 400 THz है ?

- (1) रेडियो तरंगे
- (2) माइक्रो तरंगे
- (3) प्रकाश तरंगे
- (4) इन्फ्रारेड तरंगे

Options :

- 212807126981. 1
- 212807126982. 2
- 212807126983. 3
- 212807126984. 4

Question Number : 417 Question Id : 21280731747 Question Type : MCQ Option Shuffling : No Is Question Mandatory : No Calculator : None
Response Time : N.A Think Time : N.A Minimum Instruction Time : 0

Correct Marks : 5 Wrong Marks : 1

Question Key Details :

Key	Value
Comprehension	MCQ4

The five characteristics of wired Transmission media are listed below. Which of them is/are applicable for Twisted pair cable ?

- (A) They carry data as light
- (B) They are best suited to carry signals of higher frequencies to a longer distance
- (C) Most commonly used in telephone lines and LANs
- (D) They are comparatively expensive
- (E) The cables appears like DNA helical structure

Choose the correct answer from the options given below :

- (1) (A) and (D) only
- (2) (B) and (D) only
- (3) (C) and (E) only
- (4) (A) and (B) only

Options :

- 212807126985. 1
- 212807126986. 2
- 212807126987. 3
- 212807126988. 4

Question Number : 417 Question Id : 21280731747 Question Type : MCQ Option Shuffling : No Is Question Mandatory : No Calculator : None
Response Time : N.A Think Time : N.A Minimum Instruction Time : 0
Correct Marks : 5 Wrong Marks : 1

Question Key Details :

Key	Value
Comprehension	MCQ4

वायर्ड ट्रांसमिशन मीडिया की पांच विशेषताओं को नीचे सूचीबद्ध किया गया है। इनमें से कौन सा/से द्विस्टेड पेयर केबल के लिए लागू है/हैं?

- (A) वे डेटा को प्रकाश के रूप में ले जाते हैं
- (B) वे उच्च आवृत्तियों के संकेतों को लंबी दूरी तक ले जाने के लिए सबसे उपयुक्त हैं।
- (C) आमतौर पर टेलीफोन लाइनों और लैन में उपयोग किया जाता है।
- (D) वे तुलनात्मक महंगे हैं।
- (E) केबल DNA पंचदार संरचना की तरह दिखाई देते हैं।

नीचे दिए गए विकल्पों में सही उत्तर का चुनिए :

- (1) केवल (A) और (D)
- (2) केवल (B) और (D)
- (3) केवल (C) और (E)
- (4) केवल (A) और (B)

Options :

- 212807126985. 1
- 212807126986. 2
- 212807126987. 3
- 212807126988. 4

Question Number : 418 Question Id : 21280731748 Question Type : MCQ Option Shuffling : No Is Question Mandatory : No Calculator : None
Response Time : N.A Think Time : N.A Minimum Instruction Time : 0
Correct Marks : 5 Wrong Marks : 1

Question Key Details :

Key	Value
Comprehension	MCQ4

In an optical fibre, the inner core is _____ the cladding.

- (1) more dense than
- (2) the same density as
- (3) less dense than
- (4) another name for

Options :

212807126989. 1
212807126990. 2
212807126991. 3
212807126992. 4

Question Number : 418 Question Id : 21280731748 Question Type : MCQ Option Shuffling : No Is Question Mandatory : No Calculator : None
Response Time : N.A Think Time : N.A Minimum Instruction Time : 0

Correct Marks : 5 Wrong Marks : 1

Question Key Details :

Key	Value
Comprehension	MCQ4

एक आर्टिकल फाइबर में आंतरिक कोर _____ क्लैडिंग है

- (1) से अधिक घना
- (2) के समान घनत्व
- (3) से कम घना
- (4) के लिए एक और नाम

Options :

212807126989. 1
212807126990. 2
212807126991. 3
212807126992. 4

Question Number : 419 Question Id : 21280731749 Question Type : MCQ Option Shuffling : No Is Question Mandatory : No Calculator : None
Response Time : N.A Think Time : N.A Minimum Instruction Time : 0

Correct Marks : 5 Wrong Marks : 1

Question Key Details :

Key	Value
Comprehension	MCQ4

What is a stand alone computer system ?

- (1) It is a computer system with internet connectivity
- (2) It is a server
- (3) It is a computer with any networking
- (4) It is a client

Options :

212807126993. 1
212807126994. 2
212807126995. 3
212807126996. 4

Question Number : 419 Question Id : 21280731749 Question Type : MCQ Option Shuffling : No Is Question Mandatory : No Calculator : None
Response Time : N.A Think Time : N.A Minimum Instruction Time : 0

Correct Marks : 5 Wrong Marks : 1

Question Key Details :

Key	Value
Comprehension	MCQ4

स्टैंड अलोन कम्प्यूटर सिस्टम क्या है।

- (1) यह इंटरनेट कनेक्टिविटी के साथ कम्प्यूटर सिस्टम है
- (2) यह एक सर्वर है
- (3) यह किसी भी नेटवर्किंग वाला कम्प्यूटर है
- (4) यह एक क्लाइंट है

Options :

- 212807126993. 1
- 212807126994. 2
- 212807126995. 3
- 212807126996. 4

Question Number : 420 Question Id : 21280731750 Question Type : MCQ Option Shuffling : No Is Question Mandatory : No Calculator : None
Response Time : N.A Think Time : N.A Minimum Instruction Time : 0

Correct Marks : 5 Wrong Marks : 1

Question Key Details :

Key	Value
Comprehension	MCQ4

How many maximum communicating devices are allowed to build a personal area network in Bluetooth technology ?

- (1) 31
- (2) 63
- (3) 127
- (4) 255

Options :

- 212807126997. 1
- 212807126998. 2
- 212807126999. 3
- 212807127000. 4

Question Number : 420 Question Id : 21280731750 Question Type : MCQ Option Shuffling : No Is Question Mandatory : No Calculator : None
Response Time : N.A Think Time : N.A Minimum Instruction Time : 0

Correct Marks : 5 Wrong Marks : 1

Question Key Details :

Key	Value
Comprehension	MCQ4

ब्लूटूथ तकनीक में कितने अधिकतम संचार उपकरणों को एक व्यक्तिगत नेटवर्क बनाने की आवश्यकता है।

- (1) 31
- (2) 63
- (3) 127
- (4) 255

Options :

- 212807126997. 1
- 212807126998. 2
- 212807126999. 3
- 212807127000. 4

Sub-Section Number :

Sub-Section Id : 2128072508
Question Shuffling Allowed : No
Is Section Default? : null

**Question Number : 421 Question Id : 21280731751 Question Type : MCQ Option Shuffling : No Is Question Mandatory : No Calculator : None
Response Time : N.A Think Time : N.A Minimum Instruction Time : 0**

Correct Marks : 5 Wrong Marks : 1

Question Key Details :

Key	Value
Comprehension	Comp3

Consider the following series :

SeriesA = pd.series([1, 2, 3, 4, 5], index = ['a', 'b', 'c', 'd', 'e'])

SeriesB = pd.series([10, 20, -10, -50, -100], index = ['z', 'y', 'a', 'c', 'e'])

a	1
b	2
c	3
d	4
e	5

z	10
y	20
a	-10
c	-50
e	-100

Based on the above paragraph answer the following questions :

Find the output of : SeriesA + SeriesB

(1) a -9.0
b NaN
c -47.0
d NaN
e 105.0

(2) a -9.0
b NaN
c -47.0
d NaN
e -95.0
y NaN
z NaN

(3) a -9.0
b NaN
c -47.0
d NaN
e 105.0
y NaN
z NaN

(4) Addition is not possible as index of both the series are different

Options :

- 212807127001. 1
- 212807127002. 2
- 212807127003. 3
- 212807127004. 4

Correct Marks : 5 Wrong Marks : 1

Question Key Details :

Key	Value
Comprehension	Comp3

निम्नलिखित श्रृंखला पर विचार करें:

SeriesA = pd.series([1, 2, 3, 4, 5], index=['a', 'b', 'c', 'd', 'e'])

SeriesB = pd.series([10, 20, -10, -50, -100], index=['z', 'y', 'a', 'c', 'e'])

SeriesA

a	1
b	2
c	3
d	4
e	5

SeriesB

z	10
y	20
a	-10
c	-50
e	-100

उपरोक्त अनुच्छेद के आधार पर निम्नलिखित प्रश्न का उत्तर दीजिए :

आउटपुट खोजें : SeriesA + SeriesB

- (1) a -9.0
b NaN
c -47.0
d NaN
e 105.0
- (2) a -9.0
b NaN
c -47.0
d NaN
e -95.0
y NaN
z NaN
- (3) a -9.0
b NaN
c -47.0
d NaN
e 105.0
y NaN
z NaN

(4) जोड़ना संभव नहीं है क्योंकि दोनों श्रृंखलाओं के सूचकांक अलग-अलग हैं।

Options :

212807127001. 1
212807127002. 2
212807127003. 3
212807127004. 4

Question Number : 422 Question Id : 21280731752 Question Type : MCQ Option Shuffling : No Is Question Mandatory : No Calculator : None Response Time : N.A Think Time : N.A Minimum Instruction Time : 0

Correct Marks : 5 Wrong Marks : 1

Question Key Details :

Key	Value
Comprehension	Comp3

Consider the following series :

SeriesA = pd.series([1, 2, 3, 4, 5], index=['a', 'b', 'c', 'd', 'e'])

SeriesB = pd.series([10, 20, -10, -50, -100], index=['z', 'y', 'a', 'c', 'e'])

SeriesA		SeriesB	
a	1	z	10
b	2	y	20
c	3	a	-10
d	4	c	-50
e	5	e	-100

Based on the above paragraph answer the following questions :

Identify the correct o/p for :

SeriesA.add(seriesB, fill_value=0)

- (1) a -9
b 2
c -47
d 4
e 105
y 20
z 10
- (2) a -9
b 2
c -47
d 4
e 105
- (3) a -9.0
b 2.0
c -47.0
d 4.0
e -95.0
y 20.0
z 10.0
- (4) a -9.0
b 2.0
c -47.0
d 4.0
e 105.0

Options :

212807127005. 1
212807127006. 2
212807127007. 3
212807127008. 4

Question Number : 422 Question Id : 21280731752 Question Type : MCQ Option Shuffling : No Is Question Mandatory : No Calculator : None
Response Time : N.A Think Time : N.A Minimum Instruction Time : 0

Correct Marks : 5 Wrong Marks : 1

Question Key Details :

Key	Value
Comprehension	Comp3

निम्नलिखित श्रृंखला पर विचार करें:

SeriesA = pd.series([1, 2, 3, 4, 5], index = ['a', 'b', 'c', 'd', 'e'])

SeriesB = pd.series([10, 20, -10, -50, -100], index = ['z', 'y', 'a', 'c', 'e'])

SeriesA		SeriesB	
a	1	z	10
b	2	y	20
c	3	a	-10
d	4	c	-50
e	5	e	-100

उपरोक्त अनुच्छेद के आधार पर निम्नलिखित प्रश्न का उत्तर दीजिए :

सही आउटपुट की पहचान करें:

SeriesA.add(seriesB, fill_value = 0)

- (1) a -9
b 2
c -47
d 4
e 105
y 20
z 10
- (2) a -9
b 2
c -47
d 4
e 105
- (3) a -9.0
b 2.0
c -47.0
d 4.0
e -95.0
y 20.0
z 10.0
- (4) a -9.0
b 2.0
c -47.0
d 4.0
e 105.0

Options :

212807127005. 1

212807127006. 2

212807127007. 3

Question Number : 423 Question Id : 21280731753 Question Type : MCQ Option Shuffling : No Is Question Mandatory : No Calculator : None
 Response Time : N.A Think Time : N.A Minimum Instruction Time : 0

Correct Marks : 5 Wrong Marks : 1

Question Key Details :

Key	Value
Comprehension	Comp3

Consider the following series :

SeriesA = pd.series([1, 2, 3, 4, 5], index = ['a', 'b', 'c', 'd', 'e'])

SeriesB = pd.series([10, 20, -10, -50, -100], index = ['z', 'y', 'a', 'c', 'e'])

SeriesA

a	1
b	2
c	3
d	4
e	5

SeriesB

z	10
y	20
a	-10
c	-50
e	-100

Based on the above paragraph answer the following questions :

Identify the incorrect code statement to do some operations on two series :

- (1) seriesA.sub(seriesB, fill_value = 1000)
- (2) seriesA/seriesB
- (3) seriesA*seriesB
- (4) seriesA.multiply(seriesB, fill_values = NaN)

Options :

212807127009. 1

212807127010. 2

212807127011. 3

212807127012. 4

Question Number : 423 Question Id : 21280731753 Question Type : MCQ Option Shuffling : No Is Question Mandatory : No Calculator : None
 Response Time : N.A Think Time : N.A Minimum Instruction Time : 0

Correct Marks : 5 Wrong Marks : 1

Question Key Details :

Key	Value
Comprehension	Comp3

निम्नलिखित श्रृंखला पर विचार करें:

```
SeriesA = pd.series([1, 2, 3, 4, 5], index = ['a', 'b', 'c', 'd', 'e'])
```

```
SeriesB = pd.series([10, 20, -10, -50, -100], index = ['z', 'y', 'a', 'c', 'e'])
```

SeriesA		SeriesB	
a	1	z	10
b	2	y	20
c	3	a	-10
d	4	c	-50
e	5	e	-100

उपरोक्त अनुच्छेद के आधार पर निम्नलिखित प्रश्न का उत्तर दीजिए :

दो श्रृंखलाओं पर कुछ संचालन करने के लिए गलत कोड कथन की पहचान करें:

- (1) `seriesA.sub(seriesB, fill_value = 1000)`
- (2) `seriesA/seriesB`
- (3) `seriesA*seriesB`
- (4) `seriesA.multiply(seriesB, fill_values = NaN)`

Options :

212807127009. 1

212807127010. 2

212807127011. 3

212807127012. 4

Question Number : 424 Question Id : 21280731754 Question Type : MCQ Option Shuffling : No Is Question Mandatory : No Calculator : None
Response Time : N.A Think Time : N.A Minimum Instruction Time : 0

Correct Marks : 5 Wrong Marks : 1

Question Key Details :

Key	Value
Comprehension	Comp3

Consider the following series :

SeriesA = pd.series([1, 2, 3, 4, 5], index = ['a', 'b', 'c', 'd', 'e'])

SeriesB = pd.series([10, 20, -10, -50, -100], index = ['z', 'y', 'a', 'c', 'e'])

SeriesA	
a	1
b	2
c	3
d	4
e	5

SeriesB	
z	10
y	20
a	-10
c	-50
e	-100

Based on the above paragraph answer the following questions :

Identify the correct code statement to get the output :

- a - 10.0
- b 0.0
- c - 150.0
- d 0.0
- e - 500.0
- y 0.0
- z 0.0

- (1) seriesA.mul(seriesB, fill_value = 0)
- (2) seriesA*seriesB
- (3) seriesA/seriesB
- (4) seriesA.sub(seriesB, fill_value = 0)

Options :

- 212807127013. 1
- 212807127014. 2
- 212807127015. 3
- 212807127016. 4

Question Number : 424 Question Id : 21280731754 Question Type : MCQ Option Shuffling : No Is Question Mandatory : No Calculator : None Response Time : N.A Think Time : N.A Minimum Instruction Time : 0

Correct Marks : 5 Wrong Marks : 1

Question Key Details :

Key	Value
Comprehension	Comp3

निम्नलिखित श्रृंखला पर विचार करें:

```
SeriesA = pd.series([1, 2, 3, 4, 5], index = ['a', 'b', 'c', 'd', 'e'])
```

```
SeriesB = pd.series([10, 20, -10, -50, -100], index = ['z', 'y', 'a', 'c', 'e'])
```

SeriesA	
a	1
b	2
c	3
d	4
e	5

SeriesB	
z	10
y	20
a	-10
c	-50
e	-100

उपरोक्त अनुच्छेद के आधार पर निम्नलिखित प्रश्न का उत्तर दीजिए :

आउटपुट प्राप्त करने के लिए सही कोड स्टेटमेंट की पहचान करें:

- a -10.0
- b 0.0
- c -150.0
- d 0.0
- e -500.0
- y 0.0
- z 0.0

- (1) seriesA.mul(seriesB, fill_value = 0)
- (2) seriesA*seriesB
- (3) seriesA/seriesB
- (4) seriesA.sub(seriesB, fill_value = 0)

Options :

- 212807127013. 1
- 212807127014. 2
- 212807127015. 3
- 212807127016. 4

Question Number : 425 Question Id : 21280731755 Question Type : MCQ Option Shuffling : No Is Question Mandatory : No Calculator : None
Response Time : N.A Think Time : N.A Minimum Instruction Time : 0

Correct Marks : 5 Wrong Marks : 1

Question Key Details :

Key	Value
Comprehension	Comp3

Consider the following series :

SeriesA = pd.series([1, 2, 3, 4, 5], index = ['a', 'b', 'c', 'd', 'e'])

SeriesB = pd.series([10, 20, -10, -50, -100], index = ['z', 'y', 'a', 'c', 'e'])

SeriesA	
a	1
b	2
c	3
d	4
e	5

SeriesB	
z	10
y	20
a	-10
c	-50
e	-100

Based on the above paragraph answer the following questions :

Identify the correct statement in relation to mathematical operations on series :

- (1) If the index of seriesA is not matched with index of seriesB, addition not possible.
- (2) While performing operations on series, index matching is implemented and all missing values are filled in with NaN by default.
- (3) add() function does not allow explicit specification of the fill value for any element in seriesA or seriesB that might be missing.
- (4) Multiplication and division are not possible with missing values.

Options :

- 212807127017. 1
- 212807127018. 2
- 212807127019. 3
- 212807127020. 4

Question Number : 425 Question Id : 21280731755 Question Type : MCQ Option Shuffling : No Is Question Mandatory : No Calculator : None

Response Time : N.A Think Time : N.A Minimum Instruction Time : 0

Correct Marks : 5 Wrong Marks : 1

Question Key Details :

Key	Value
Comprehension	Comp3

निम्नलिखित श्रृंखला पर विचार करें:

```
SeriesA = pd.series([1, 2, 3, 4, 5], index = ['a', 'b', 'c', 'd', 'e'])
```

```
SeriesB = pd.series([10, 20, -10, -50, -100], index = ['z', 'y', 'a', 'c', 'e'])
```

SeriesA	
a	1
b	2
c	3
d	4
e	5

SeriesB	
z	10
y	20
a	-10
c	-50
e	-100

उपरोक्त अनुच्छेद के आधार पर निम्नलिखित प्रश्न का उत्तर दीजिए :

श्रृंखला पर गणितीय संक्रियाओं के संबंध में सही कथन की पहचान करें:

- (1) यदि seriesA का सूचकांक seriesB के सूचकांक से मेल नहीं खाता, तो योग संभव नहीं है।
- (2) श्रृंखला पर संचालन करते समय, सूचकांक मिलान लागू किया जाता है और डिफाल्ट रूप से NaN के साथ सभी लापता मान भरे जाते हैं।
- (3) add() फंक्शन seriesA में किसी भी तत्व के लिए भरण मूल्य के स्पष्ट विनिर्देश की अनुमति नहीं देता है।
- (4) लापता मूल्यों के साथ गुणा और भाग संभव नहीं है।

Options :

212807127017. 1
212807127018. 2
212807127019. 3
212807127020. 4

Sub-Section Number :

3

Sub-Section Id :

2128072509

Question Shuffling Allowed :

No

Is Section Default? :

null

Question Number : 426 Question Id : 21280731756 Question Type : MCQ Option Shuffling : No Is Question Mandatory : No Calculator : None
Response Time : N.A Think Time : N.A Minimum Instruction Time : 0

Correct Marks : 5 Wrong Marks : 1

Question Key Details :

Key	Value
Comprehension	Comp4

Read the passage carefully and answer the question based on the passage :

In the current digital era we are familiar with different kinds of social media. These are the websites that enable users to participate in social networking by creating and sharing contents with others in the community. In this way users can interact with others online users of those social media apps. There are certain etiquettes which need to be followed on social media too, because whenever we surf the internet we leave a trail of the activities we perform online. When the computer and network is used as a tool to perform criminal activities or offences can be considered as cyber crime like hacking, phishing, spamming. We should be careful as excessive usage of digital devices has a negative impact on our physical as well as psychological well being.

A responsible netizen must abide by _____.

- (A) Net etiquettes
- (B) Shopping etiquettes
- (C) Communication etiquettes
- (D) Social media etiquettes

Choose the **correct** answer from the options given below :

- (1) (A), (B) and (C) only
- (2) (A), (C) and (D) only
- (3) (A), (B), (C) and (D) only
- (4) (A) and (C) only

Options :

- 212807127021. 1
- 212807127022. 2
- 212807127023. 3
- 212807127024. 4

Question Number : 426 Question Id : 21280731756 Question Type : MCQ Option Shuffling : No Is Question Mandatory : No Calculator : None Response Time : N.A Think Time : N.A Minimum Instruction Time : 0

Correct Marks : 5 Wrong Marks : 1

Question Key Details :

Key	Value
Comprehension	Comp4

अनुच्छेद के आधार पर निम्नलिखित प्रश्न का उत्तर दीजिए :

वर्तमान डिजिटल युग में हम विभिन्न प्रकार के सोशल मीडिया से परिचित हैं। ये वेबसाइट है जो उपयोगकर्ताओं को समुदाय में अन्य लोगों के साथ सामग्री बनाकर और साझा करके सामाजिक नेटवर्किंग में भाग लेने में सक्षम बनाती है। इस तरह से उपयोगकर्ता उन सोशल मीडिया ऐप्स के अन्य ऑनलाइन उपयोगकर्ताओं के साथ बातचीत कर सकते हैं। ये कुछ शिष्टाचार है जिनका सोशल मीडिया पर भी पालन की आवश्यकता है, क्योंकि जब भी हम इंटरनेट पर सर्फ करते हैं। तो हम उन गतिविधियों का निशान छोड़ जाते हैं, जिन्हें हम ऑनलाइन करते हैं। जब कम्प्यूटर और नेटवर्क का उपयोग अपराधिक गतिविधियों या अपराधों को करने के लिए उपकरण के रूप में किया जाता है, तो इसे हैकिंग, फिशिंग, स्पैमिंग जैसे साइबर अपराध माना जा सकता है। हमें सावधान रहना चाहिए क्योंकि डिजिटल उपकरणों के अत्याधिक उपयोग से हमारे शारीरिक और मानसिक स्वास्थ्य पर नकारात्मक प्रभाव पड़ता है।

एक जिम्मेदार नागरिक को इसका पालन करना चाहिए।

- (A) शुद्ध शिष्टाचार
- (B) खरीददारी शिष्टाचार
- (C) संचार शिष्टाचार
- (D) सोशल मीडिया शिष्टाचार

नीचे दिए गए विकल्पों में सही उत्तर कीजिए

- (1) केवल (A), (B) और (C)
- (2) केवल (A), (C) और (D)
- (3) केवल (A), (B), (C) और (D)
- (4) केवल (A) और (C)

Options :

- 212807127021. 1
- 212807127022. 2
- 212807127023. 3
- 212807127024. 4

Question Number : 427 Question Id : 21280731757 Question Type : MCQ Option Shuffling : No Is Question Mandatory : No Calculator : None
Response Time : N.A Think Time : N.A Minimum Instruction Time : 0

Correct Marks : 5 Wrong Marks : 1

Question Key Details :

Key	Value
Comprehension	Comp4

Read the passage carefully and answer the question based on the passage :

In the current digital era we are familiar with different kinds of social media. These are the websites that enable users to participate in social networking by creating and sharing contents with others in the community. In this way users can interact with others online users of those social media apps. There are certain etiquettes which need to be followed on social media too, because whenever we surf the internet we leave a trail of the activities we perform online. When the computer and network is used as a tool to perform criminal activities or offences can be considered as cyber crime like hacking, phishing, spamming. We should be careful as excessive usage of digital devices has a negative impact on our physical as well as psychological well being.

Whenever we surf the internet using smartphone or computer, we leave a trail of data reflecting the activities performed by us online. This is our.

- (1) Digital footprint
- (2) Digital handprint
- (3) Offline footprint
- (4) Online footprint

Options :

212807127025. 1
212807127026. 2
212807127027. 3
212807127028. 4

Question Number : 427 Question Id : 21280731757 Question Type : MCQ Option Shuffling : No Is Question Mandatory : No Calculator : None
Response Time : N.A Think Time : N.A Minimum Instruction Time : 0

Correct Marks : 5 Wrong Marks : 1

Question Key Details :

Key	Value
Comprehension	Comp4

अनुच्छेद के आधार पर निम्नलिखित प्रश्न का उत्तर दीजिए :

वर्तमान डिजिटल युग में हम विभिन्न प्रकार के सोशल मीडिया से परिचित हैं। ये वेबसाइट है जो उपयोगकर्ताओं को समुदाय में अन्य लोगों के साथ सामग्री बनाकर और साझा करके सामाजिक नेटवर्किंग में भाग लेने में सक्षम बनाती है। इस तरह से उपयोगकर्ता उन सोशल मीडिया ऐप्स के अन्य ऑनलाइन उपयोगकर्ताओं के साथ बातचीत कर सकते हैं। ये कुछ शिष्टाचार है जिनका सोशल मीडिया पर भी पालन की आवश्यकता है, क्योंकि जब भी हम इंटरनेट पर सर्फ करते हैं। तो हम उन गतिविधियों का निशान छोड़ जाते हैं, जिन्हें हम ऑनलाइन करते हैं। जब कम्प्यूटर और नेटवर्क का उपयोग अपराधिक गतिविधियों या अपराधों को करने के लिए उपकरण के रूप में किया जाता है, तो इसे हैकिंग, फिशिंग, स्पैमिंग जैसे साइबर अपराध माना जा सकता है। हमें सावधान रहना चाहिए क्योंकि डिजिटल उपकरणों के अत्याधिक उपयोग से हमारे शारीरिक और मानसिक स्वास्थ्य पर नकारात्मक प्रभाव पड़ता है।

संचार जब भी हम स्मार्ट फोन या कम्प्यूटर का उपयोग करके इंटरनेट पर सक करते हैं, तो हम अपने द्वारा ऑनलाइन की गई गतिविधियों को दर्शाते हुए डेटा का एक निशान छोड़ देते हैं। यह हमारा है

- (1) डिजिटल फुटप्रिंट
- (2) डिजिटल हैंडप्रिंट
- (3) ऑफलाइन फुटप्रिंट
- (4) ऑनलाइन फुटप्रिंट

Options :

212807127025. 1
212807127026. 2
212807127027. 3
212807127028. 4

Question Number : 428 Question Id : 21280731758 Question Type : MCQ Option Shuffling : No Is Question Mandatory : No Calculator : None
Response Time : N.A Think Time : N.A Minimum Instruction Time : 0

Correct Marks : 5 Wrong Marks : 1

Question Key Details :

Key	Value
Comprehension	Comp4

Read the passage carefully and answer the question based on the passage :

In the current digital era we are familiar with different kinds of social media. These are the websites that enable users to participate in social networking by creating and sharing contents with others in the community. In this way users can interact with others online users of those social media apps. There are certain etiquettes which need to be followed on social media too, because whenever we surf the internet we leave a trail of the activities we perform online. When the computer and network is used as a tool to perform criminal activities or offences can be considered as cyber crime like hacking, phishing, spamming. We should be careful as excessive usage of digital devices has a negative impact on our physical as well as psychological well being.

Which of the following is not the correct social media etiquettes ?

- (1) Choose password wisely
- (2) Know who you be friend with
- (3) Upload anything on social media
- (4) Beware of fake information

Options :

212807127029. 1
212807127030. 2
212807127031. 3
212807127032. 4

Question Number : 428 Question Id : 21280731758 Question Type : MCQ Option Shuffling : No Is Question Mandatory : No Calculator : None
Response Time : N.A Think Time : N.A Minimum Instruction Time : 0

Correct Marks : 5 Wrong Marks : 1

Question Key Details :

Key	Value
Comprehension	Comp4

अनुच्छेद के आधार पर निम्नलिखित प्रश्न का उत्तर दीजिए :

वर्तमान डिजिटल युग में हम विभिन्न प्रकार के सोशल मीडिया से परिचित हैं। ये वेबसाइट है जो उपयोगकर्ताओं को समुदाय में अन्य लोगों के साथ सामग्री बनाकर और साझा करके सामाजिक नेटवर्किंग में भाग लेने में सक्षम बनाती है। इस तरह से उपयोगकर्ता उन सोशल मीडिया ऐप्स के अन्य ऑनलाइन उपयोगकर्ताओं के साथ बातचीत कर सकते हैं। ये कुछ शिष्टाचार है जिनका सोशल मीडिया पर भी पालन की आवश्यकता है, क्योंकि जब भी हम इंटरनेट पर सर्फ करते हैं। तो हम उन गतिविधियों का निशान छोड़ जाते हैं, जिन्हें हम ऑनलाइन करते हैं। जब कम्प्यूटर और नेटवर्क का उपयोग अपराधिक गतिविधियों या अपराधों को करने के लिए उपकरण के रूप में किया जाता है, तो इसे हैकिंग, फिशिंग, स्पैमिंग जैसे साइबर अपराध माना जा सकता है। हमें सावधान रहना चाहिए क्योंकि डिजिटल उपकरणों के अत्याधिक उपयोग से हमारे शारीरिक और मानसिक स्वास्थ्य पर नकारात्मक प्रभाव पड़ता है।

निम्न में कौन सा सोशल मीडिया शिष्टाचार नहीं है?

- (1) पासवर्ड बुद्धिमानी से चुनें
- (2) जानिए आप किससे दोस्ती करते हैं
- (3) सोशल मीडिया पर कुछ भी अपलोड करे
- (4) फर्जी सूचनाओं से सावधान रहें

Options :

212807127029. 1
212807127030. 2
212807127031. 3
212807127032. 4

Question Number : 429 Question Id : 21280731759 Question Type : MCQ Option Shuffling : No Is Question Mandatory : No Calculator : None
Response Time : N.A Think Time : N.A Minimum Instruction Time : 0

Correct Marks : 5 Wrong Marks : 1

Question Key Details :

Key	Value
Comprehension	Comp4

Read the passage carefully and answer the question based on the passage :

In the current digital era we are familiar with different kinds of social media. These are the websites that enable users to participate in social networking by creating and sharing contents with others in the community. In this way users can interact with others online users of those social media apps. There are certain etiquettes which need to be followed on social media too, because whenever we surf the internet we leave a trail of the activities we perform online. When the computer and network is used as a tool to perform criminal activities or offences can be considered as cyber crime like hacking, phishing, spamming. We should be careful as excessive usage of digital devices has a negative impact on our physical as well as psychological well being.

If a hacker uses its knowledge to find and help in fixing the security flaws in the system, it is termed as _____.

- (1) White hat hacker
- (2) Yellow hat hacker
- (3) Green hat hacker
- (4) Black hat hacker

Options :

212807127033. 1
212807127034. 2

212807127035. 3

212807127036. 4

Question Number : 429 Question Id : 21280731759 Question Type : MCQ Option Shuffling : No Is Question Mandatory : No Calculator : None
Response Time : N.A Think Time : N.A Minimum Instruction Time : 0

Correct Marks : 5 Wrong Marks : 1

Question Key Details :

Key	Value
Comprehension	Comp4

अनुच्छेद के आधार पर निम्नलिखित प्रश्न का उत्तर दीजिए :

वर्तमान डिजिटल युग में हम विभिन्न प्रकार के सोशल मीडिया से परिचित हैं। ये वेबसाइट हैं जो उपयोगकर्ताओं को समुदाय में अन्य लोगों के साथ सामग्री बनाकर और साझा करके सामाजिक नेटवर्किंग में भाग लेने में सक्षम बनाती हैं। इस तरह से उपयोगकर्ता उन सोशल मीडिया ऐप्स के अन्य ऑनलाइन उपयोगकर्ताओं के साथ बातचीत कर सकते हैं। ये कुछ शिष्टाचार हैं जिनका सोशल मीडिया पर भी पालन की आवश्यकता है, क्योंकि जब भी हम इंटरनेट पर सर्फ करते हैं तो हम उन गतिविधियों का निशान छोड़ जाते हैं, जिन्हें हम ऑनलाइन करते हैं। जब कम्प्यूटर और नेटवर्क का उपयोग अपराधिक गतिविधियों या अपराधों को करने के लिए उपकरण के रूप में किया जाता है, तो इसे हैकिंग, फिशिंग, स्पैमिंग जैसे साइबर अपराध माना जा सकता है। हमें सावधान रहना चाहिए क्योंकि डिजिटल उपकरणों के अत्याधिक उपयोग से हमारे शारीरिक और मानसिक स्वास्थ्य पर नकारात्मक प्रभाव पड़ता है।

यदि कोई हैकर सिस्टम में सुरक्षा प्रभाव को खोजने और ठीक करने में मदद करने के लिए अपने ज्ञान का उपयोग करता है, तो इसे कहा जाता है।

- (1) व्हाइट हैट हैकर
- (2) यलो हैट हैकर
- (3) ग्रीन हैट हैकर
- (4) ब्लैक हैट हैकर

Options :

212807127033. 1

212807127034. 2

212807127035. 3

212807127036. 4

Question Number : 430 Question Id : 21280731760 Question Type : MCQ Option Shuffling : No Is Question Mandatory : No Calculator : None
Response Time : N.A Think Time : N.A Minimum Instruction Time : 0

Correct Marks : 5 Wrong Marks : 1

Question Key Details :

Key	Value
Comprehension	Comp4

Read the passage carefully and answer the question based on the passage :

In the current digital era we are familiar with different kinds of social media. These are the websites that enable users to participate in social networking by creating and sharing contents with others in the community. In this way users can interact with others online users of those social media apps. There are certain etiquettes which need to be followed on social media too, because whenever we surf the internet we leave a trail of the activities we perform online. When the computer and network is used as a tool to perform criminal activities or offences can be considered as cyber crime like hacking, phishing, spamming. We should be careful as excessive usage of digital devices has a negative impact on our physical as well as psychological well being.

Ergonomics is related to :

- (1) E-waste
- (2) E-mails
- (3) Cyber crimes
- (4) Health concerns

Options :

212807127037. 1
212807127038. 2
212807127039. 3
212807127040. 4

Question Number : 430 Question Id : 21280731760 Question Type : MCQ Option Shuffling : No Is Question Mandatory : No Calculator : None
Response Time : N.A Think Time : N.A Minimum Instruction Time : 0

Correct Marks : 5 Wrong Marks : 1

Question Key Details :

Key	Value
Comprehension	Comp4

अनुच्छेद के आधार पर निम्नलिखित प्रश्न का उत्तर दीजिए :

वर्तमान डिजिटल युग में हम विभिन्न प्रकार के सोशल मीडिया से परिचित हैं। ये वेबसाइट है जो उपयोगकर्ताओं को समुदाय में अन्य लोगों के साथ सामग्री बनाकर और साझा करके सामाजिक नेटवर्किंग में भाग लेने में सक्षम बनाती है। इस तरह से उपयोगकर्ता उन सोशल मीडिया ऐप्स के अन्य ऑनलाइन उपयोगकर्ताओं के साथ बातचीत कर सकते हैं। ये कुछ शिष्टाचार है जिनका सोशल मीडिया पर भी पालन की आवश्यकता है, क्योंकि जब भी हम इंटरनेट पर सर्फ करते हैं। तो हम उन गतिविधियों का निशान छोड़ जाते हैं, जिन्हें हम ऑनलाइन करते हैं। जब कम्प्यूटर और नेटवर्क का उपयोग अपराधिक गतिविधियों या अपराधों को करने के लिए उपकरण के रूप में किया जाता है, तो इसे हैकिंग, फिशिंग, स्पैमिंग जैसे साइबर अपराध माना जा सकता है। हमें सावधान रहना चाहिए क्योंकि डिजिटल उपकरणों के अत्याधिक उपयोग से हमारे शारीरिक और मानसिक स्वास्थ्य पर नकारात्मक प्रभाव पड़ता है।

एर्गोनॉमिक्स संबंधित है :

- (1) ई-वेस्ट
- (2) ई-मेल
- (3) साइबर क्राइम
- (4) स्वास्थ्य के बोर में बातें

Options :

212807127037. 1
212807127038. 2
212807127039. 3

212807127040. 4

Sub-Section Number : 4
Sub-Section Id : 2128072510
Question Shuffling Allowed : Yes
Is Section Default? : null

Question Number : 431 Question Id : 21280731761 Question Type : MCQ Option Shuffling : No Is Question Mandatory : No Calculator : None
Response Time : N.A Think Time : N.A Minimum Instruction Time : 0

Correct Marks : 5 Wrong Marks : 1

Question Key Details :

Key	Value
Comprehension	MCQ5

Which of the following function will display the average of each row of a dataframe named df ?

- (1) df.mean()
- (2) df.mean(axis = 1)
- (3) df.mean(axis = 0)
- (4) df.mean(AXIS = 0)

Options :

212807127041. 1
212807127042. 2
212807127043. 3
212807127044. 4

Question Number : 431 Question Id : 21280731761 Question Type : MCQ Option Shuffling : No Is Question Mandatory : No Calculator : None
Response Time : N.A Think Time : N.A Minimum Instruction Time : 0

Correct Marks : 5 Wrong Marks : 1

Question Key Details :

Key	Value
Comprehension	MCQ5

निम्नलिखित में से कौन सा फंक्शन df नाम के डेटाफ्रेम को प्रत्येक पंक्ति का औसत प्रदर्शित करेगा ?

- (1) df.mean()
- (2) df.mean(axis = 1)
- (3) df.mean(axis = 0)
- (4) df.mean(AXIS = 0)

Options :

212807127041. 1
212807127042. 2
212807127043. 3
212807127044. 4

Question Number : 432 Question Id : 21280731762 Question Type : MCQ Option Shuffling : No Is Question Mandatory : No Calculator : None
Response Time : N.A Think Time : N.A Minimum Instruction Time : 0

Correct Marks : 5 Wrong Marks : 1

Question Key Details :

Key	Value
Comprehension	MCQ5

Consider an example(s) :

A person is listening into the transmissions on a LAN between two workstations or tuning into transmissions between a wireless handset and a base station.

The above situation(s) is the example of :

- (1) Spam
- (2) Denial of service attacks
- (3) Snooping
- (4) Eavesdropping

Options :

212807127045. 1
212807127046. 2
212807127047. 3
212807127048. 4

Question Number : 432 Question Id : 21280731762 Question Type : MCQ Option Shuffling : No Is Question Mandatory : No Calculator : None
Response Time : N.A Think Time : N.A Minimum Instruction Time : 0

Correct Marks : 5 Wrong Marks : 1

Question Key Details :

Key	Value
Comprehension	MCQ5

एक उदाहरण पर विचार करें:

एक व्यक्ति दो वर्कस्टेशनों के बीच लैन पर प्रसारण सुन रहा है या वायरलेड हैंडसेट और बेस स्टेशन के बीच प्रसारण में ट्यूनिंग कर रहा है।

- (1) स्पैम
- (2) डिनायल ऑल सर्विस अटैक
- (3) स्नूपिंग
- (4) चोरी छुपे सुनना

Options :

212807127045. 1
212807127046. 2
212807127047. 3
212807127048. 4

Question Number : 433 Question Id : 21280731763 Question Type : MCQ Option Shuffling : No Is Question Mandatory : No Calculator : None
Response Time : N.A Think Time : N.A Minimum Instruction Time : 0

Correct Marks : 5 Wrong Marks : 1

Question Key Details :

Key	Value
Comprehension	MCQ5

Nimish has stolen a credit card. He has used the card at petrol pump for fuel refilling in his car what type of offence it is :

- (1) Cyber fraud
- (2) Hacking
- (3) Phishing
- (4) Spamming

Options :

212807127049. 1
212807127050. 2

212807127051. 3
212807127052. 4

Question Number : 433 Question Id : 21280731763 Question Type : MCQ Option Shuffling : No Is Question Mandatory : No Calculator : None
Response Time : N.A Think Time : N.A Minimum Instruction Time : 0
Correct Marks : 5 Wrong Marks : 1

Question Key Details :

Key	Value
Comprehension	MCQ5

नीमिश ने क्रेडिट कार्ड चुराया है। उसने अपनी कार में ईंधन भरने के लिए पेट्रोल पंप पर कार्ड का इस्तेमाल किया है। किस प्रकार का अपराध है :

- (1) साइबर फ्राड
- (2) हैकिंग
- (3) फिशिंग
- (4) स्पैमिंग

Options :

212807127049. 1
212807127050. 2
212807127051. 3
212807127052. 4

Question Number : 434 Question Id : 21280731764 Question Type : MCQ Option Shuffling : No Is Question Mandatory : No Calculator : None
Response Time : N.A Think Time : N.A Minimum Instruction Time : 0
Correct Marks : 5 Wrong Marks : 1

Question Key Details :

Key	Value
Comprehension	MCQ5

Match List - I with List - II.

List - I

List - II

- | | |
|--------------|--|
| (A) Phishing | (I) Code redirects user to fake website without user knowing |
| (B) Spyware | (II) Alters or deletes data |
| (C) Pharming | (III) Fake email replicates well known organization |
| (D) Viruses | (IV) Monitors information by monitoring key presses on a user's keyboard |

Choose the correct answer from the options given below :

- (1) (A)-(III), (B)-(IV), (C)-(I), (D)-(II)
- (2) (A)-(IV), (B)-(III), (C)-(II), (D)-(I)
- (3) (A)-(II), (B)-(I), (C)-(III), (D)-(IV)
- (4) (A)-(I), (B)-(II), (C)-(IV), (D)-(III)

Options :

212807127053. 1
212807127054. 2
212807127055. 3
212807127056. 4

Question Number : 434 Question Id : 21280731764 Question Type : MCQ Option Shuffling : No Is Question Mandatory : No Calculator : None
Response Time : N.A Think Time : N.A Minimum Instruction Time : 0
Correct Marks : 5 Wrong Marks : 1

Question Key Details :

Key	Value
Comprehension	MCQ5

सूची-I से सूची-II का मिलान कीजिए :

सूची-I	सूची-II
(A) फिशिंग	(I) कोड उपयोगकर्ता को जाने बिना नकली वेबसाइट पर रीडायरेक्ट करता है
(B) स्पाइवेयर	(II) डेटा को बदलना या मिटाना
(C) फार्मिंग	(III) नकली ई-मेल प्रतिकृति प्रसिद्ध संगठन के द्वारा
(D) वायरस	(IV) यूजर्स की-बोर्ड पर प्रमुख प्रेस की निगरानी करके जानकारी पर नजर रखता है

नीचे दिए गए विकल्पों में से सही उत्तर का चयन कीजिए :

- (1) (A)-(III), (B)-(IV), (C)-(I), (D)-(II)
- (2) (A)-(IV), (B)-(III), (C)-(II), (D)-(I)
- (3) (A)-(II), (B)-(I), (C)-(III), (D)-(IV)
- (4) (A)-(I), (B)-(II), (C)-(IV), (D)-(III)

Options :

212807127053. 1
212807127054. 2
212807127055. 3
212807127056. 4

Question Number : 435 Question Id : 21280731765 Question Type : MCQ Option Shuffling : No Is Question Mandatory : No Calculator : None
Response Time : N.A Think Time : N.A Minimum Instruction Time : 0

Correct Marks : 5 Wrong Marks : 1

Question Key Details :

Key	Value
Comprehension	MCQ5

Methods of Malware identification used by Antivirus is ?

- (1) Network Propagation
- (2) Spam Email
- (3) Adware
- (4) Heuristics

Options :

212807127057. 1
212807127058. 2
212807127059. 3
212807127060. 4

Question Number : 435 Question Id : 21280731765 Question Type : MCQ Option Shuffling : No Is Question Mandatory : No Calculator : None
Response Time : N.A Think Time : N.A Minimum Instruction Time : 0

Correct Marks : 5 Wrong Marks : 1

Question Key Details :

Key	Value
Comprehension	MCQ5

एंटीवायरस द्वारा उपयोग किए जाने वाले मालवेयर पहचान के तरीके हैं ?

- (1) नेटवर्क प्रसार
- (2) स्पैम ई-मेल
- (3) एडवेयर
- (4) हयुरिस्टिक्स

Options :

212807127057. 1
212807127058. 2
212807127059. 3
212807127060. 4

Economics

Group Number : 15
Group Id : 212807739
Group Maximum Duration : 60
Group Minimum Duration : 60
Show Attended Group? : No
Edit Attended Group? : No
Break time : 0
Group Marks : 200
Is this Group for Examiner? : No
Examiner permission : Cant View
Show Progress Bar? : No

Economics

Section Id : 212807871
Section Number : 1
Section type : Online
Mandatory or Optional : Mandatory
Number of Questions : 50
Number of Questions to be attempted : 40
Section Marks : 200
Enable Mark as Answered Mark for Review and Clear Response : Yes
Maximum Instruction Time : 0
Sub-Section Number : 1
Sub-Section Id : 2128072511
Question Shuffling Allowed : Yes
Is Section Default? : null

**Question Number : 436 Question Id : 21280731816 Question Type : MCQ Option Shuffling : No Is Question Mandatory : No Calculator : None
Response Time : N.A Think Time : N.A Minimum Instruction Time : 0
Correct Marks : 5 Wrong Marks : 1**

Question Key Details :

Key	Value
Comprehension	MCQ

The following are features of flexible exchange rate system select the correct option.

- (A) Give more flexibility to government.
- (B) Restricts countries in conducting monetary policies.
- (C) Government intervenes to comes gaps in BOP.
- (D) Automatically takes care of surplus and deficit in BOP.
- (E) Speculator attack on currency.

Choose the correct answer from the options given below :

- (1) (A) and (B) only
- (2) (A) and (D) only
- (3) (C) and (D) only
- (4) (D) and (E) only

Options :

212807127261. 1
212807127262. 2
212807127263. 3

Question Number : 436 Question Id : 21280731816 Question Type : MCQ Option Shuffling : No Is Question Mandatory : No Calculator : None
Response Time : N.A Think Time : N.A Minimum Instruction Time : 0

Correct Marks : 5 Wrong Marks : 1

Question Key Details :

Key	Value
Comprehension	MCQ

तिरती या नम्य विनिमय दर व्यवस्था से सम्बन्धित दिए गए कथनों में से सही उत्तरों का चुनाव कीजिए।

- (A) सरकार को अधिक तिरती या नम्य सुविधा देना।
- (B) प्रतिबंधित देशों में मौद्रिक नीतियों को संचालन करना।
- (C) सरकार द्वारा BOP में हुए अन्तर पर हस्तक्षेप करना।
- (D) BOP के अधिशेष और धारा की स्वतः देख रेख।
- (E) मुद्रा पर अटकलबाजी का प्रहार।

नीचे दिए गए विकल्पों में से सही उत्तर का चयन कीजिए :

- (1) केवल (A) और (B)
- (2) केवल (A) और (D)
- (3) केवल (C) और (D)
- (4) केवल (D) और (E)

Options :

- 212807127261. 1
- 212807127262. 2
- 212807127263. 3
- 212807127264. 4

Question Number : 437 Question Id : 21280731817 Question Type : MCQ Option Shuffling : No Is Question Mandatory : No Calculator : None
Response Time : N.A Think Time : N.A Minimum Instruction Time : 0

Correct Marks : 5 Wrong Marks : 1

Question Key Details :

Key	Value
Comprehension	MCQ

In the production of sugar, sugarcane is _____.

- (1) A Final good
- (2) A Capital good
- (3) An intermediate good
- (4) A Consumer good

Options :

- 212807127265. 1
- 212807127266. 2
- 212807127267. 3
- 212807127268. 4

Question Number : 437 Question Id : 21280731817 Question Type : MCQ Option Shuffling : No Is Question Mandatory : No Calculator : None
Response Time : N.A Think Time : N.A Minimum Instruction Time : 0

Correct Marks : 5 Wrong Marks : 1

Question Key Details :

Key	Value
Comprehension	MCQ

चीनी के उत्पादन में, गन्ना _____ है।

- (1) एक अन्तिम वस्तु
- (2) एक पूँजीगत वस्तु
- (3) एक मध्यवर्ती वस्तु
- (4) एक उपभोक्ता वस्तु

Options :

212807127265. 1
212807127266. 2
212807127267. 3
212807127268. 4

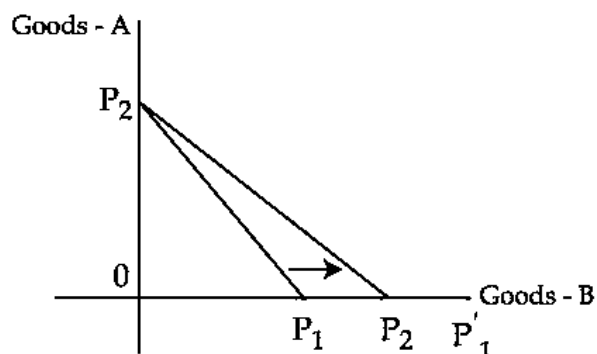
Question Number : 438 Question Id : 21280731818 Question Type : MCQ Option Shuffling : No Is Question Mandatory : No Calculator : None
Response Time : N.A Think Time : N.A Minimum Instruction Time : 0

Correct Marks : 5 Wrong Marks : 1

Question Key Details :

Key	Value
Comprehension	MCQ

In this diagram, budget line goes flatter from $P_1 P_2$ to $P_2 P'_1$. The reason for budget line being flatter is :



- (1) No change Goods-B price.
- (2) Goods-B price increases
- (3) Goods-B price decreases
- (4) Goods-A price decreases

Options :

212807127269. 1
212807127270. 2
212807127271. 3
212807127272. 4

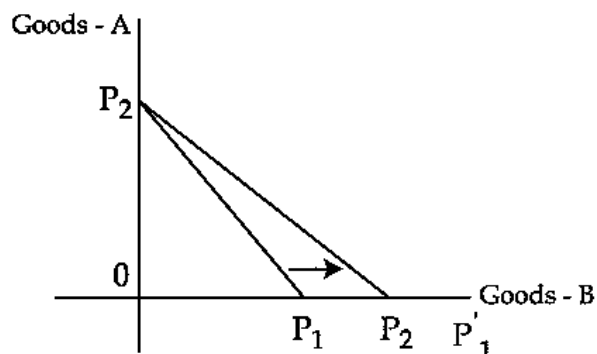
Question Number : 438 Question Id : 21280731818 Question Type : MCQ Option Shuffling : No Is Question Mandatory : No Calculator : None
Response Time : N.A Think Time : N.A Minimum Instruction Time : 0

Correct Marks : 5 Wrong Marks : 1

Question Key Details :

Key	Value
Comprehension	MCQ

नीचे दिए गए रेखाचित्र में बजट रेखा $P_1 P_2$ से $P_2 P'_1$ की सपाट जाती है। बजट रेखा के सपाट होने का कारण :



- (1) वस्तु-B की कीमत का अपरिवर्तनशील होना
- (2) वस्तु-B की कीमत में वृद्धि
- (3) वस्तु-B की कीमत में कमी
- (4) वस्तु-A की कीमत में कमी

Options :

212807127269. 1
 212807127270. 2
 212807127271. 3
 212807127272. 4

Question Number : 439 Question Id : 21280731819 Question Type : MCQ Option Shuffling : No Is Question Mandatory : No Calculator : None Response Time : N.A Think Time : N.A Minimum Instruction Time : 0

Correct Marks : 5 Wrong Marks : 1

Question Key Details :

Key	Value
Comprehension	MCQ

Which of the following is not a part of money supply ?

- (1) Reserve money
- (2) E-wallets
- (3) Saving deposits
- (4) Recurring deposits

Options :

212807127273. 1
 212807127274. 2
 212807127275. 3
 212807127276. 4

Question Number : 439 Question Id : 21280731819 Question Type : MCQ Option Shuffling : No Is Question Mandatory : No Calculator : None Response Time : N.A Think Time : N.A Minimum Instruction Time : 0

Correct Marks : 5 Wrong Marks : 1

Question Key Details :

Key	Value
Comprehension	MCQ

निम्नलिखित में से कौन मुद्रा आपूर्ति का हिस्सा नहीं है ?

- (1) सुरक्षित मुद्रा
- (2) इ-वालेटस मुद्रा
- (3) बचत जमाएं
- (4) आवर्ति जमाएं (Recurring deposits)

Options :

212807127273. 1
212807127274. 2
212807127275. 3
212807127276. 4

Question Number : 440 Question Id : 21280731820 Question Type : MCQ Option Shuffling : No Is Question Mandatory : No Calculator : None
Response Time : N.A Think Time : N.A Minimum Instruction Time : 0

Correct Marks : 5 Wrong Marks : 1

Question Key Details :

Key	Value
Comprehension	MCQ

A student of economics has recorded following transactions under revenue receipts, Identify the incorrect item recorded by her, if any :

- (1) Duties levied on goods produced within country
- (2) Value of goods produced by government undertakings
- (3) Dividend received on investments made by government
- (4) Cash grants in aid received from foreign countries

Options :

212807127277. 1
212807127278. 2
212807127279. 3
212807127280. 4

Question Number : 440 Question Id : 21280731820 Question Type : MCQ Option Shuffling : No Is Question Mandatory : No Calculator : None
Response Time : N.A Think Time : N.A Minimum Instruction Time : 0

Correct Marks : 5 Wrong Marks : 1

Question Key Details :

Key	Value
Comprehension	MCQ

एक अर्थशास्त्र के छात्र द्वारा राजस्व प्राप्तियों को दर्शाने के लिए निम्नलिखित मदों के लेनदेन को शामिल किया गया है। इन में से गलत मद की पहचान करके उत्तर दीजिए :

- (1) भारत में उत्पादित वस्तुओं पर शुल्क लगाना।
- (2) सरकार के अन्तर्गत आने वाले उपक्रमों के उत्पाद का मूल्य।
- (3) सरकार द्वारा किए गए निवेश पर प्राप्त लाभांश।
- (4) विदेशों से नकद के रूप में प्राप्त सहायता।

Options :

212807127277. 1
212807127278. 2
212807127279. 3
212807127280. 4

Question Number : 441 Question Id : 21280731821 Question Type : MCQ Option Shuffling : No Is Question Mandatory : No Calculator : None
Response Time : N.A Think Time : N.A Minimum Instruction Time : 0

Correct Marks : 5 Wrong Marks : 1

Question Key Details :

Key	Value
Comprehension	MCQ

The first industrial policy resolution (IPR) in independent India was introduced in year _____.

- (1) 1948
- (2) 1984
- (3) 1958
- (4) 2000

Options :

212807127281. 1
212807127282. 2
212807127283. 3
212807127284. 4

Question Number : 441 Question Id : 21280731821 Question Type : MCQ Option Shuffling : No Is Question Mandatory : No Calculator : None Response Time : N.A Think Time : N.A Minimum Instruction Time : 0

Correct Marks : 5 Wrong Marks : 1

Question Key Details :

Key	Value
Comprehension	MCQ

स्वतंत्र भारत में प्रथम औद्योगिक नीति प्रस्ताव _____ वर्ष में लागू किया गया था।

- (1) 1948
- (2) 1984
- (3) 1958
- (4) 2000

Options :

212807127281. 1
212807127282. 2
212807127283. 3
212807127284. 4

Question Number : 442 Question Id : 21280731822 Question Type : MCQ Option Shuffling : No Is Question Mandatory : No Calculator : None Response Time : N.A Think Time : N.A Minimum Instruction Time : 0

Correct Marks : 5 Wrong Marks : 1

Question Key Details :

Key	Value
Comprehension	MCQ

Regulation of markets aim to create orderly and transparent marketing conditions. Name the group that has been benefited from this :

- (1) Consumers
- (2) Midlemen
- (3) Consumers and farmers
- (4) Agents and traders

Options :

212807127285. 1
212807127286. 2
212807127287. 3
212807127288. 4

Question Number : 442 Question Id : 21280731822 Question Type : MCQ Option Shuffling : No Is Question Mandatory : No Calculator : None Response Time : N.A Think Time : N.A Minimum Instruction Time : 0

Correct Marks : 5 Wrong Marks : 1

Question Key Details :

Key	Value
Comprehension	MCQ

नियमित बाजार व्यवस्था का उद्देश्य बाजार की स्थिति को पारदर्शी तथा सुचारू रूप से संचालन है। उस समूह का नाम बताए जिसे इसका लाभ प्राप्त होता है।

- (1) उपभोक्ता गण
- (2) मध्यस्थ
- (3) उपभोक्ता और किसान
- (4) एजेंट और व्यापारी

Options :

212807127285. 1
212807127286. 2
212807127287. 3
212807127288. 4

Question Number : 443 Question Id : 21280731823 Question Type : MCQ Option Shuffling : No Is Question Mandatory : No Calculator : None Response Time : N.A Think Time : N.A Minimum Instruction Time : 0

Correct Marks : 5 Wrong Marks : 1

Question Key Details :

Key	Value
Comprehension	MCQ

The difference between national income and domestic income is _____. Choose the correct answer from the following.

- (1) Net indirect taxes
- (2) Net factor income from abroad
- (3) Consumption of fixed capital
- (4) Intermediate goods

Options :

212807127289. 1
212807127290. 2
212807127291. 3
212807127292. 4

Question Number : 443 Question Id : 21280731823 Question Type : MCQ Option Shuffling : No Is Question Mandatory : No Calculator : None Response Time : N.A Think Time : N.A Minimum Instruction Time : 0

Correct Marks : 5 Wrong Marks : 1

Question Key Details :

Key	Value
Comprehension	MCQ

राष्ट्रीय आय और घरेलू आय में अन्तर _____ होता है। नीचे दिए गए वाक्यों में से सही उत्तर का चयन कीजिए।

- (1) निक्ल अप्रत्यक्ष कर
- (2) शेष विश्व से प्राप्त शुद्ध साधन आय
- (3) स्थिर पूँजी का उपयोग
- (4) मध्यवर्ती वस्तुएं

Options :

212807127289. 1
212807127290. 2
212807127291. 3
212807127292. 4

Question Number : 444 Question Id : 21280731824 Question Type : MCQ Option Shuffling : No Is Question Mandatory : No Calculator : None
Response Time : N.A Think Time : N.A Minimum Instruction Time : 0

Correct Marks : 5 Wrong Marks : 1

Question Key Details :

Key	Value
Comprehension	MCQ

Identify the correct statements from the following :

- (A) When central bank buys securities without any promise to sell them later is called injecting
- (B) Open market operations in buying and selling of securities by the commercial bank
- (C) Open market operation leads to a change in bank rate
- (D) When central bank sells securities without any promise to buy them later is called injecting
- (E) RBI influences money supply through open market operations

Choose the correct answer from the options given below :

- (1) (A) and (E) only
- (2) (A) and (D) only
- (3) (E) and (D) only
- (4) (B) and (C) only

Options :

212807127293. 1

212807127294. 2

212807127295. 3

212807127296. 4

Question Number : 444 Question Id : 21280731824 Question Type : MCQ Option Shuffling : No Is Question Mandatory : No Calculator : None
Response Time : N.A Think Time : N.A Minimum Instruction Time : 0

Correct Marks : 5 Wrong Marks : 1

Question Key Details :

Key	Value
Comprehension	MCQ

नीचे दिए गए निम्नलिखित कथनों में से सही कथन की पहचान कीजिए :

- (A) जब केन्द्रीय बैंक प्रतिभूतियों को खरीदता है तथा इनको दोबारा बाद में बेचने का कोई वायदा नहीं करती, इसे द्रव्य का प्रतिस्थापन कहते हैं।
- (B) व्यावसायिक बैंको द्वारा खुले बाजार की क्रिया में प्रतिभूतियों को खरीदा तथा बेचा जाता है।
- (C) खुले बाजार की क्रियाओं की भूमिका बैंक दर को परिवर्तित करती है।
- (D) जब केन्द्रीय बैंक प्रतिभूतियों को बेचता है तथा दोबारा बाद में खरीदने का वायदा नहीं करता, उसे द्रव्य का प्रतिस्थापन कहते हैं।
- (E) खुले बाजार क्रियाओं द्वारा RBI मुद्रा पूर्ति को प्रभावित करता है।

नीचे दिए गए विकल्पों में से सही उत्तर का चयन कीजिए :

- (1) केवल (A) और (E)
- (2) केवल (A) और (D)
- (3) केवल (E) और (D)
- (4) केवल (B) और (C)

Options :

212807127293. 1

212807127294. 2

212807127295. 3
212807127296. 4

Question Number : 445 Question Id : 21280731825 Question Type : MCQ Option Shuffling : No Is Question Mandatory : No Calculator : None
Response Time : N.A Think Time : N.A Minimum Instruction Time : 0
Correct Marks : 5 Wrong Marks : 1

Question Key Details :

Key	Value
Comprehension	MCQ

In India, Fiscal Responsibility and Budget Management Act, (FRBMA) was enacted in the year _____.

- (1) 2000
- (2) 2003
- (3) 2009
- (4) 2005

Options :

212807127297. 1
212807127298. 2
212807127299. 3
212807127300. 4

Question Number : 445 Question Id : 21280731825 Question Type : MCQ Option Shuffling : No Is Question Mandatory : No Calculator : None
Response Time : N.A Think Time : N.A Minimum Instruction Time : 0
Correct Marks : 5 Wrong Marks : 1

Question Key Details :

Key	Value
Comprehension	MCQ

भारत में राजकोषीय उत्तर दायित्व और बजटीय प्रबंधन अधिनियम (FRBMA) वर्ष _____ में लागू किया गया था।

- (1) 2000
- (2) 2003
- (3) 2009
- (4) 2005

Options :

212807127297. 1
212807127298. 2
212807127299. 3
212807127300. 4

Question Number : 446 Question Id : 21280731826 Question Type : MCQ Option Shuffling : No Is Question Mandatory : No Calculator : None
Response Time : N.A Think Time : N.A Minimum Instruction Time : 0
Correct Marks : 5 Wrong Marks : 1

Question Key Details :

Key	Value
Comprehension	MCQ

Match List - I with List - II.

List - I

- (A) Export of goods and services
(B) Trade surplus
(C) Current transfers to rest of the world
(D) Portfolio investment

List - II

- (I) Excess of export of goods over import of goods
(II) An element of invisible item
(III) Recorded in credit side the current account BOP
(IV) Foreign institutional investment

Choose the correct answer from the options given below :

- (1) (A)-(I), (B)-(II), (C)-(IV), (D)-(III)
(2) (A)-(III), (B)-(II), (C)-(I), (D)-(IV)
(3) (A)-(I), (B)-(II), (C)-(III), (D)-(IV)
(4) (A)-(III), (B)-(I), (C)-(II), (D)-(IV)

Options :

212807127301. 1
212807127302. 2
212807127303. 3
212807127304. 4

Question Number : 446 Question Id : 21280731826 Question Type : MCQ Option Shuffling : No Is Question Mandatory : No Calculator : None
Response Time : N.A Think Time : N.A Minimum Instruction Time : 0

Correct Marks : 5 Wrong Marks : 1

Question Key Details :

Key	Value
Comprehension	MCQ

सूची-I से सूची-II का मिलान कीजिए :

सूची-I

- (A) वस्तुओं और सेवाओं का निर्यात
(B) व्यापार अधिशेष
(C) शेष विश्व की चालू अन्तरण
(D) संविभाग निवेश

सूची-II

- (I) आयातित वस्तुओं से निर्यातित वस्तुओं का अधिक होना
(II) अदृश्य मदों वाले तत्व
(III) BOP के चालू खाता के अन्तर्गत जमा की तरफ शामिल होना
(IV) विदेशी संस्थागत निवेश

नीचे दिए गए विकल्पों में से सही उत्तर का चयन कीजिए :

- (1) (A)-(I), (B)-(II), (C)-(IV), (D)-(III)
(2) (A)-(III), (B)-(II), (C)-(I), (D)-(IV)
(3) (A)-(I), (B)-(II), (C)-(III), (D)-(IV)
(4) (A)-(III), (B)-(I), (C)-(II), (D)-(IV)

Options :

212807127301. 1
212807127302. 2
212807127303. 3
212807127304. 4

Question Number : 447 Question Id : 21280731827 Question Type : MCQ Option Shuffling : No Is Question Mandatory : No Calculator : None
Response Time : N.A Think Time : N.A Minimum Instruction Time : 0

Correct Marks : 5 Wrong Marks : 1

Question Key Details :

Key	Value
-----	-------

Arrange the correct sequence on the basis of the year of introduction :

- (A) New agriculture strategy
- (B) First industrial policy in India
- (C) Second industrial policy in India
- (D) Commission of agriculture cost and price

Choose the correct answer from the options given below :

- (1) (A), (D), (B), (C)
- (2) (B), (D), (A), (C)
- (3) (C), (B), (D), (A)
- (4) (B), (C), (A), (D)

Options :

- 212807127305. 1
- 212807127306. 2
- 212807127307. 3
- 212807127308. 4

Question Number : 447 Question Id : 21280731827 Question Type : MCQ Option Shuffling : No Is Question Mandatory : No Calculator : None
Response Time : N.A Think Time : N.A Minimum Instruction Time : 0
Correct Marks : 5 Wrong Marks : 1

Question Key Details :

Key	Value
Comprehension	MCQ

निम्नलिखित को उनके लागू होने वर्ष के आधार पर उचित काल क्रम में निर्धारित कीजिए :

- (A) नयी कृषि नीति
- (B) भारत में प्रथम औद्योगिक नीति
- (C) भारत में द्वितीय औद्योगिक नीति
- (D) कृषि लागत और कीमत आयोग

नीचे दिए गए विकल्पों में से सही उत्तर का चयन कीजिए :

- (1) (A), (D), (B), (C)
- (2) (B), (D), (A), (C)
- (3) (C), (B), (D), (A)
- (4) (B), (C), (A), (D)

Options :

- 212807127305. 1
- 212807127306. 2
- 212807127307. 3
- 212807127308. 4

Question Number : 448 Question Id : 21280731828 Question Type : MCQ Option Shuffling : No Is Question Mandatory : No Calculator : None
Response Time : N.A Think Time : N.A Minimum Instruction Time : 0
Correct Marks : 5 Wrong Marks : 1

Question Key Details :

Key	Value
Comprehension	MCQ

The aim of the instruments that initiated to improve the marketing aspect is :

- (1) To increase income inequalities
- (2) To increase the national income
- (3) Providing the food grains at a subsidised price to the poor
- (4) Providing the food grains at a higher price

Options :

- 212807127309. 1
- 212807127310. 2
- 212807127311. 3
- 212807127312. 4

Question Number : 448 Question Id : 21280731828 Question Type : MCQ Option Shuffling : No Is Question Mandatory : No Calculator : None
Response Time : N.A Think Time : N.A Minimum Instruction Time : 0

Correct Marks : 5 Wrong Marks : 1

Question Key Details :

Key	Value
Comprehension	MCQ

बाजार के स्वरूप को विकशित करने के लिए प्रयोग में आने वाले साधनों का उद्देश्य होता है :

- (1) आय की असमानता को बढ़ाना।
- (2) राष्ट्रीय आय में वृद्धि होना।
- (3) गरीबों को सहायता प्राप्त निम्न दर पर खाद्य अनाजों को उपलब्ध कराना।
- (4) उच्चतर कीमत पर खाद्य अनाजों को उपलब्ध कराना।

Options :

- 212807127309. 1
- 212807127310. 2
- 212807127311. 3
- 212807127312. 4

Question Number : 449 Question Id : 21280731829 Question Type : MCQ Option Shuffling : No Is Question Mandatory : No Calculator : None
Response Time : N.A Think Time : N.A Minimum Instruction Time : 0

Correct Marks : 5 Wrong Marks : 1

Question Key Details :

Key	Value
Comprehension	MCQ

Nation is a lender to other countries means :

- (1) Surplus current account
- (2) Deficit current account
- (3) Trade surplus
- (4) Trade deficit

Options :

- 212807127313. 1
- 212807127314. 2
- 212807127315. 3
- 212807127316. 4

Question Number : 449 Question Id : 21280731829 Question Type : MCQ Option Shuffling : No Is Question Mandatory : No Calculator : None
Response Time : N.A Think Time : N.A Minimum Instruction Time : 0

Correct Marks : 5 Wrong Marks : 1

Question Key Details :

Key	Value
Comprehension	MCQ

राष्ट्र दूसरे देशों का ऋण दाता है का अर्थ है :

- (1) अधिशेष चालू खाता
- (2) घाटे का चालू खाता
- (3) ब्यापार अधिशेष
- (4) ब्यापार घाटा

Options :

212807127313. 1

212807127314. 2

212807127315. 3

212807127316. 4

Question Number : 450 Question Id : 21280731830 Question Type : MCQ Option Shuffling : No Is Question Mandatory : No Calculator : None Response Time : N.A Think Time : N.A Minimum Instruction Time : 0

Correct Marks : 5 Wrong Marks : 1

Question Key Details :

Key	Value
Comprehension	MCQ

What is the General shape of Demand curve ?

- (1) Upward sloping straight line
- (2) A line parallel to x-axis
- (3) Generally downward sloping to all normal goods
- (4) A line parallel to y-axis

Options :

212807127317. 1

212807127318. 2

212807127319. 3

212807127320. 4

Question Number : 450 Question Id : 21280731830 Question Type : MCQ Option Shuffling : No Is Question Mandatory : No Calculator : None Response Time : N.A Think Time : N.A Minimum Instruction Time : 0

Correct Marks : 5 Wrong Marks : 1

Question Key Details :

Key	Value
Comprehension	MCQ

मांग वक्र का सामान्य रूप से आकार क्या होता है ?

- (1) ऊर्ध्व की और ढलान सीधी रेखा
- (2) x-अक्ष के समानान्तर एक रेखा
- (3) सभी सामान्य वस्तुएं जहाँ नीचे की और ढलान
- (4) y-अक्ष के समानान्तर एक रेखा

Options :

212807127317. 1

212807127318. 2

212807127319. 3

212807127320. 4

Question Number : 451 Question Id : 21280731831 Question Type : MCQ Option Shuffling : No Is Question Mandatory : No Calculator : None Response Time : N.A Think Time : N.A Minimum Instruction Time : 0

Correct Marks : 5 Wrong Marks : 1

Question Key Details :

Key	Value
-----	-------

Comprehension	MCQ
---------------	-----

Choose right statement of flows :

- (1) Referred yearly or monthly
- (2) Time period is not mentioned
- (3) Defined at a particular point of time
- (4) Over a period of time

Options :

- 212807127321. 1
- 212807127322. 2
- 212807127323. 3
- 212807127324. 4

Question Number : 451 Question Id : 21280731831 Question Type : MCQ Option Shuffling : No Is Question Mandatory : No Calculator : None
Response Time : N.A Think Time : N.A Minimum Instruction Time : 0

Correct Marks : 5 Wrong Marks : 1

Question Key Details :

Key	Value
Comprehension	MCQ

प्रवाह के लिए सही कथन का चुनाव कीजिए :

- (1) वार्षिक या मासिक के रूप में उल्लेख होता है।
- (2) एक समयावधि को शामिल नहीं किया गया है।
- (3) परिभाषा किसी निश्चित समय पर की जाती है।
- (4) एक समयावधि के लिए परिभाषित किया जाता है।

Options :

- 212807127321. 1
- 212807127322. 2
- 212807127323. 3
- 212807127324. 4

Question Number : 452 Question Id : 21280731832 Question Type : MCQ Option Shuffling : No Is Question Mandatory : No Calculator : None
Response Time : N.A Think Time : N.A Minimum Instruction Time : 0

Correct Marks : 5 Wrong Marks : 1

Question Key Details :

Key	Value
Comprehension	MCQ

The process of selling off part of equity of PSE is called :

- (1) Nationalisation
- (2) Disinvestment
- (3) Restructuring
- (4) Shutting down

Options :

- 212807127325. 1
- 212807127326. 2
- 212807127327. 3
- 212807127328. 4

Question Number : 452 Question Id : 21280731832 Question Type : MCQ Option Shuffling : No Is Question Mandatory : No Calculator : None
Response Time : N.A Think Time : N.A Minimum Instruction Time : 0

Correct Marks : 5 Wrong Marks : 1

Question Key Details :

Key	Value
Comprehension	MCQ

PSE की इक्वीटी के कुछ हिस्से को बेचने की प्रक्रिया को कहा जाता है :

- (1) राष्ट्रीयकरण
- (2) विनिवेश
- (3) पुनःढांचागत निर्माण
- (4) बन्द करना

Options :

212807127325. 1
212807127326. 2
212807127327. 3
212807127328. 4

Question Number : 453 Question Id : 21280731833 Question Type : MCQ Option Shuffling : No Is Question Mandatory : No Calculator : None
Response Time : N.A Think Time : N.A Minimum Instruction Time : 0

Correct Marks : 5 Wrong Marks : 1

Question Key Details :

Key	Value
Comprehension	MCQ

Arrange the correct sequence according to the year of Establishment/Commencement.

- (A) Niti Aayog
- (B) First five year plan
- (C) Planning Commission
- (D) Period of Plan holiday
- (E) Foundation of British colonial rule in India

Choose the **correct** answer from the options given below :

- (1) (E), (C), (B), (D), (A)
- (2) (C), (B), (D), (E), (A)
- (3) (E), (B), (C), (A), (D)
- (4) (B), (C), (D), (E), (A)

Options :

212807127329. 1
212807127330. 2
212807127331. 3
212807127332. 4

Question Number : 453 Question Id : 21280731833 Question Type : MCQ Option Shuffling : No Is Question Mandatory : No Calculator : None
Response Time : N.A Think Time : N.A Minimum Instruction Time : 0

Correct Marks : 5 Wrong Marks : 1

Question Key Details :

Key	Value
Comprehension	MCQ

निम्नलिखित कार्यों के प्रारम्भ के वर्षों को कालक्रम के अनुसार निर्धारित कीजिए :

- (A) नीति आयोग
- (B) प्रथम पंच वर्षीय योजना
- (C) योजना आयोग
- (D) योजना अवकाश का वर्ष (Period of Plan holiday)
- (E) भारत में ब्रिटिश उपनिवेशी शासन की स्थापना

नीचे दिए गए विकल्पों में से सही उत्तर का चयन कीजिए :

- (1) (E), (C), (B), (D), (A)
- (2) (C), (B), (D), (E), (A)
- (3) (E), (B), (C), (A), (D)
- (4) (B), (C), (D), (E), (A)

Options :

- 212807127329. 1
- 212807127330. 2
- 212807127331. 3
- 212807127332. 4

Question Number : 454 Question Id : 21280731834 Question Type : MCQ Option Shuffling : No Is Question Mandatory : No Calculator : None
Response Time : N.A Think Time : N.A Minimum Instruction Time : 0

Correct Marks : 5 Wrong Marks : 1

Question Key Details :

Key	Value
Comprehension	MCQ

One of the following function is performed by the government if it intervenes either to expand demand or to reduce it. Select the correct answer.

- (1) Allocation function
- (2) Redistribution function
- (3) Stabilisation function
- (4) Public provision

Options :

- 212807127333. 1
- 212807127334. 2
- 212807127335. 3
- 212807127336. 4

Question Number : 454 Question Id : 21280731834 Question Type : MCQ Option Shuffling : No Is Question Mandatory : No Calculator : None
Response Time : N.A Think Time : N.A Minimum Instruction Time : 0

Correct Marks : 5 Wrong Marks : 1

Question Key Details :

Key	Value
Comprehension	MCQ

सरकार का हस्तक्षेप चाहे वह मांग का विस्तार करने के लिए हो अथवा कम करने के लिए, उस कार्य को कहा जाता है _____ । सही उत्तर का चुनाव कीजिए :

- (1) आबंटन कार्य
- (2) पुनः आवंटन कार्य
- (3) स्थिरीकरण कार्य
- (4) जन योजना या प्रवन्ध

Options :

212807127333. 1
212807127334. 2
212807127335. 3
212807127336. 4

Question Number : 455 Question Id : 21280731835 Question Type : MCQ Option Shuffling : No Is Question Mandatory : No Calculator : None
Response Time : N.A Think Time : N.A Minimum Instruction Time : 0

Correct Marks : 5 Wrong Marks : 1

Question Key Details :

Key	Value
Comprehension	MCQ

The government budget of a hypothetical economy presents the following information :

- (A) Revenue expenditure = ₹ 25,000 crores
- (B) Capital expenditure = ₹ 35,000 crores
- (C) Capital receipt = ₹ 30,000 crores
- (D) Revenue receipt = ₹ 20,000 crores
- (E) Interest payment = ₹ 10,000 crores
- (F) Borrowings = ₹ 20,000 crores

Which of the following is Budget Deficit ?

- (1) ₹ 12,000 crores
- (2) ₹ 10,000 crores
- (3) ₹ 20,000 crores
- (4) ₹ 5,000 crores

Options :

212807127337. 1
212807127338. 2
212807127339. 3
212807127340. 4

Question Number : 455 Question Id : 21280731835 Question Type : MCQ Option Shuffling : No Is Question Mandatory : No Calculator : None
Response Time : N.A Think Time : N.A Minimum Instruction Time : 0

Correct Marks : 5 Wrong Marks : 1

Question Key Details :

Key	Value
Comprehension	MCQ

सरकारी बजट एक कल्पना आधारित अर्थव्यवस्था की निम्नलिखित सूचना के आधार पर प्रदर्शित होती है।

- (A) राजस्व व्यय = ₹ 25,000 करोड़
- (B) पूँजीगत व्यय = ₹ 35,000 करोड़
- (C) पूँजीगत प्राप्तियाँ = ₹ 30,000 करोड़
- (D) राजस्व प्राप्तियाँ = ₹ 20,000 करोड़
- (E) ब्याज भुगतान = ₹ 10,000 करोड़
- (F) उधार/कर्ज = ₹ 20,000 करोड़

निम्नलिखित में से बजट घाटा कौन सा है ?

- (1) ₹ 12,000 करोड़
- (2) ₹ 10,000 करोड़
- (3) ₹ 20,000 करोड़
- (4) ₹ 5,000 करोड़

Options :

- 212807127337. 1
- 212807127338. 2
- 212807127339. 3
- 212807127340. 4

Question Number : 456 Question Id : 21280731836 Question Type : MCQ Option Shuffling : No Is Question Mandatory : No Calculator : None Response Time : N.A Think Time : N.A Minimum Instruction Time : 0

Correct Marks : 5 Wrong Marks : 1

Question Key Details :

Key	Value
Comprehension	MCQ

Functions of central bank are :

- (A) SLR
- (B) CRR
- (C) Open market operations
- (D) Banker's Bank
- (E) Issue of currency

Choose the correct answer from the options given below :

- (1) (D) and (E) only
- (2) (A) and (C) only
- (3) (C) and (D) only
- (4) (A) and (E) only

Options :

- 212807127341. 1
- 212807127342. 2
- 212807127343. 3
- 212807127344. 4

Question Number : 456 Question Id : 21280731836 Question Type : MCQ Option Shuffling : No Is Question Mandatory : No Calculator : None Response Time : N.A Think Time : N.A Minimum Instruction Time : 0

Correct Marks : 5 Wrong Marks : 1

Question Key Details :

Key	Value
-----	-------

केन्द्रीय बैंक का कार्य है :

- (A) SLR
- (B) CRR
- (C) खुली बाजार क्रियाएं
- (D) बैंको का बैंक
- (E) मुद्रा का निर्गमन

नीचे दिए गए विकल्पों में से सही उत्तर का चयन कीजिए :

- (1) केवल (D) और (E)
- (2) केवल (A) और (C)
- (3) केवल (C) और (D)
- (4) केवल (A) और (E)

Options :

- 212807127341. 1
- 212807127342. 2
- 212807127343. 3
- 212807127344. 4

Question Number : 457 Question Id : 21280731837 Question Type : MCQ Option Shuffling : No Is Question Mandatory : No Calculator : None
Response Time : N.A Think Time : N.A Minimum Instruction Time : 0

Correct Marks : 5 Wrong Marks : 1

Question Key Details :

Key	Value
Comprehension	MCQ

The Book "All Enquiry into the nature and causes of the Wealth of Nations" written by :

- (1) John Maynarel Keynes
- (2) Adam Smith
- (3) Marshal
- (4) Pigan

Options :

- 212807127345. 1
- 212807127346. 2
- 212807127347. 3
- 212807127348. 4

Question Number : 457 Question Id : 21280731837 Question Type : MCQ Option Shuffling : No Is Question Mandatory : No Calculator : None
Response Time : N.A Think Time : N.A Minimum Instruction Time : 0

Correct Marks : 5 Wrong Marks : 1

Question Key Details :

Key	Value
Comprehension	MCQ

द बुक "इन इन्क्वायरी इन्टू द नेचर एंड काउज ऑफ दे वेल्थ ऑफ नेशंस" की रचनाकार है :

- (1) जॉन मयनार्ड कीन्स
- (2) एडम स्मिथ
- (3) मार्शल
- (4) पीगन

Options :

212807127345. 1
 212807127346. 2
 212807127347. 3
 212807127348. 4

Question Number : 458 Question Id : 21280731838 Question Type : MCQ Option Shuffling : No Is Question Mandatory : No Calculator : None
 Response Time : N.A Think Time : N.A Minimum Instruction Time : 0

Correct Marks : 5 Wrong Marks : 1

Question Key Details :

Key	Value
Comprehension	MCQ

Match List - I with List - II.**List - I**

- (A) Goods used in production process and are durable in character
 (B) Inputs for production
 (C) Machines in a factory
 (D) Annual profits

List - II

- (I) Intermediate goods
 (II) Flows
 (III) Capital goods
 (IV) Stocks

Choose the correct answer from the options given below :

- (1) (A)-(I), (B)-(II), (C)-(III), (D)-(IV)
 (2) (A)-(I), (B)-(III), (C)-(II), (D)-(IV)
 (3) (A)-(I), (B)-(III), (C)-(IV), (D)-(II)
 (4) (A)-(III), (B)-(I), (C)-(IV), (D)-(II)

Options :

212807127349. 1
 212807127350. 2
 212807127351. 3
 212807127352. 4

Question Number : 458 Question Id : 21280731838 Question Type : MCQ Option Shuffling : No Is Question Mandatory : No Calculator : None
 Response Time : N.A Think Time : N.A Minimum Instruction Time : 0

Correct Marks : 5 Wrong Marks : 1

Question Key Details :

Key	Value
Comprehension	MCQ

सूची-I से सूची-II का मिलान कीजिए :

सूची-I

- (A) उत्पादन प्रक्रिया में प्रयोग की गई वस्तुएं टिकाऊ प्रकृति की होती हैं।
 (B) उत्पादन के लिए प्रयोग होने वाली वस्तुएं
 (C) कारखाने में मशीनों का उपयोग
 (D) वार्षिक लाभ

सूची-II

- (I) मध्यवर्ती वस्तुएं
 (II) प्रवाह
 (III) पूँजीगत वस्तुएं
 (IV) स्टॉक

नीचे दिए गए विकल्पों में से सही उत्तर का चयन कीजिए :

- (1) (A)-(I), (B)-(II), (C)-(III), (D)-(IV)
 (2) (A)-(I), (B)-(III), (C)-(II), (D)-(IV)
 (3) (A)-(I), (B)-(III), (C)-(IV), (D)-(II)
 (4) (A)-(III), (B)-(I), (C)-(IV), (D)-(II)

Options :

212807127349. 1
 212807127350. 2
 212807127351. 3
 212807127352. 4

Question Number : 459 Question Id : 21280731839 Question Type : MCQ Option Shuffling : No Is Question Mandatory : No Calculator : None
 Response Time : N.A Think Time : N.A Minimum Instruction Time : 0

Correct Marks : 5 Wrong Marks : 1

Question Key Details :

Key	Value
Comprehension	MCQ

Which of the following is not true for capital receipts ?

- (1) They are regular and recurring in nature
- (2) They either create any liability or reduce any asset of government
- (3) E.g Loans and Borrowings
- (4) They relate to future obligation to return or disinvestment of assets

Options :

212807127353. 1
 212807127354. 2
 212807127355. 3
 212807127356. 4

Question Number : 459 Question Id : 21280731839 Question Type : MCQ Option Shuffling : No Is Question Mandatory : No Calculator : None
 Response Time : N.A Think Time : N.A Minimum Instruction Time : 0

Correct Marks : 5 Wrong Marks : 1

Question Key Details :

Key	Value
Comprehension	MCQ

निम्नलिखित में से कौन से कथन पूँजीगत प्राप्तियों के संदर्भ में सही नहीं है ?

- (1) स्वाभाविक रूप में वे नियमित और आवर्ती होती है।
- (2) वे सरकार की ऐसी सभी प्राप्तियाँ जिन से देयता पैदा या वित्तीय संपतियाँ कम हो।
- (3) कर्ज और उधार।
- (4) संपत्ति का विनिवेश भविष्य में देयता या अदायगी की जिम्मेदारी होती है।

Options :

212807127353. 1
 212807127354. 2
 212807127355. 3
 212807127356. 4

Question Number : 460 Question Id : 21280731840 Question Type : MCQ Option Shuffling : No Is Question Mandatory : No Calculator : None
 Response Time : N.A Think Time : N.A Minimum Instruction Time : 0

Correct Marks : 5 Wrong Marks : 1

Question Key Details :

Key	Value
Comprehension	MCQ

Which of the following definition is correct answer of the production possibility set of the economy ?

- (1) The collection of all possible combination of the goods and services that can not be produced a fixed amount
- (2) The collection of all possible combinations of goods and services that can be produced from a given amount of resources and a given stock of technological knowledge
- (3) The combination of different type of goods and its utilisation are related with each other
- (4) The combination of all goods and its resources creates the production possibility curve

Options :

212807127357. 1
212807127358. 2
212807127359. 3
212807127360. 4

Question Number : 460 Question Id : 21280731840 Question Type : MCQ Option Shuffling : No Is Question Mandatory : No Calculator : None
Response Time : N.A Think Time : N.A Minimum Instruction Time : 0

Correct Marks : 5 Wrong Marks : 1

Question Key Details :

Key	Value
Comprehension	MCQ

निम्नलिखित में से अर्थव्यवस्था के उत्पादन सम्भावना सेट की सही परिभाषा का चुनाव कीजिए।

- (1) उपलब्ध संसाधनों की मात्रा तथा वस्तु एवम् सेवाओं के सभी सम्भावित संयोगों के सहयोग से एक निश्चित मात्रा का उत्पादन नहीं होता है।
- (2) उपलब्ध संसाधनों की मात्रा तथा उपलब्ध प्रौद्योगिकी ज्ञान के द्वारा उत्पादित की जा सकने वाली सभी वस्तुओं तथा सेवाओं के सभी संभावित संयोगों के समूह की कहते हैं।
- (3) विभिन्न प्रकार की वस्तुओं के संयोगों एवम् उसकी उपयोगिता एक-दूसरे से जुड़ी होती है।
- (4) सभी वस्तुओं और उनके संसाधनों के संयोगों से उत्पादन सम्भावना वक्र निर्मित होता है।

Options :

212807127357. 1
212807127358. 2
212807127359. 3
212807127360. 4

Question Number : 461 Question Id : 21280731841 Question Type : MCQ Option Shuffling : No Is Question Mandatory : No Calculator : None
Response Time : N.A Think Time : N.A Minimum Instruction Time : 0

Correct Marks : 5 Wrong Marks : 1

Question Key Details :

Key	Value
Comprehension	MCQ

China's Economic Development-Policies implemented - Arrange in order

- (A) Great leap forward
- (B) Nationalization of Enterprises and Land
- (C) Great Proletarian Cultural Revolution
- (D) Five year plan
- (E) Special Economic Zone

Choose the correct answer from the options given below :

- (1) (B), (C), (A), (D), (E)
- (2) (B), (A), (D), (C), (E)
- (3) (B), (D), (A), (C), (E)
- (4) (A), (E), (B), (D), (C)

Options :

- 212807127361. 1
- 212807127362. 2
- 212807127363. 3
- 212807127364. 4

Question Number : 461 Question Id : 21280731841 Question Type : MCQ Option Shuffling : No Is Question Mandatory : No Calculator : None Response Time : N.A Think Time : N.A Minimum Instruction Time : 0

Correct Marks : 5 Wrong Marks : 1

Question Key Details :

Key	Value
Comprehension	MCQ

चीन की आर्थिक विकास नीति लागू के उपाय - इसे क्रमानुसार व्यवस्थित कीजिए :

- (A) ग्रेट लीप फारवर्ड
- (B) उपक्रमों एवम् भूमि का राष्ट्रीकरण
- (C) महान सर्वहारा सांस्कृतिक क्रांति
- (D) पंच वर्षीय योजना
- (E) विशेष आर्थिक क्षेत्र

नीचे दिए गए विकल्पों में से सही उत्तर का चयन कीजिए :

- (1) (B), (C), (A), (D), (E)
- (2) (B), (A), (D), (C), (E)
- (3) (B), (D), (A), (C), (E)
- (4) (A), (E), (B), (D), (C)

Options :

- 212807127361. 1
- 212807127362. 2
- 212807127363. 3
- 212807127364. 4

Question Number : 462 Question Id : 21280731842 Question Type : MCQ Option Shuffling : No Is Question Mandatory : No Calculator : None Response Time : N.A Think Time : N.A Minimum Instruction Time : 0

Correct Marks : 5 Wrong Marks : 1

Question Key Details :

Key	Value
Comprehension	MCQ

Make a correct chronological sequence of following.

- (A) Establishment of TISCO
- (B) First Population census
- (C) Zamindari system
- (D) Opening of Suez canal
- (E) Introduction of railways

Choose the correct answer from the options given below :

- (1) (A), (B), (C), (D), (E)
- (2) (B), (A), (C), (D), (E)
- (3) (C), (D), (E), (A), (B)
- (4) (C), (E), (D), (B), (A)

Options :

- 212807127365. 1
- 212807127366. 2
- 212807127367. 3
- 212807127368. 4

Question Number : 462 Question Id : 21280731842 Question Type : MCQ Option Shuffling : No Is Question Mandatory : No Calculator : None Response Time : N.A Think Time : N.A Minimum Instruction Time : 0

Correct Marks : 5 Wrong Marks : 1

Question Key Details :

Key	Value
Comprehension	MCQ

निम्नलिखित को कालक्रमानुसार व्यवस्थित कीजिए :

- (A) TISCO की स्थापना
- (B) प्रथम जन गणना
- (C) जमींदारी प्रथा
- (D) स्वेज नहर का आवागमन के लिए खुलना
- (E) रेलवे की स्थापना

नीचे दिए गए विकल्पों में से सही उत्तर का चयन कीजिए :

- (1) (A), (B), (C), (D), (E)
- (2) (B), (A), (C), (D), (E)
- (3) (C), (D), (E), (A), (B)
- (4) (C), (E), (D), (B), (A)

Options :

- 212807127365. 1
- 212807127366. 2
- 212807127367. 3
- 212807127368. 4

Question Number : 463 Question Id : 21280731843 Question Type : MCQ Option Shuffling : No Is Question Mandatory : No Calculator : None Response Time : N.A Think Time : N.A Minimum Instruction Time : 0

Correct Marks : 5 Wrong Marks : 1

Question Key Details :

Key	Value
Comprehension	MCQ

Direct tax is called direct because it is collected directly from _____.

- (1) The producer on goods purchased
- (2) The sellers on goods sold
- (3) The buyers of goods
- (4) The income earners

Options :

212807127369. 1
212807127370. 2
212807127371. 3
212807127372. 4

Question Number : 463 Question Id : 21280731843 Question Type : MCQ Option Shuffling : No Is Question Mandatory : No Calculator : None
Response Time : N.A Think Time : N.A Minimum Instruction Time : 0

Correct Marks : 5 Wrong Marks : 1

Question Key Details :

Key	Value
Comprehension	MCQ

प्रत्यक्ष कर को प्रत्यक्ष कहते हैं क्योंकि यह _____ से प्रत्यक्ष रूप से प्राप्त होता है।

- (1) उत्पादक जो वस्तुएं खरीदता है।
- (2) विक्रेता जो वस्तुएं बेचता है।
- (3) वस्तुओं को खरीदने वाला।
- (4) आय अर्जित करने वाले।

Options :

212807127369. 1
212807127370. 2
212807127371. 3
212807127372. 4

Question Number : 464 Question Id : 21280731844 Question Type : MCQ Option Shuffling : No Is Question Mandatory : No Calculator : None
Response Time : N.A Think Time : N.A Minimum Instruction Time : 0

Correct Marks : 5 Wrong Marks : 1

Question Key Details :

Key	Value
Comprehension	MCQ

When total utility remains constant the value of marginal utility is _____.

- (1) Maximum
- (2) Zero
- (3) Negative
- (4) Minimum

Options :

212807127373. 1
212807127374. 2
212807127375. 3
212807127376. 4

Question Number : 464 Question Id : 21280731844 Question Type : MCQ Option Shuffling : No Is Question Mandatory : No Calculator : None
Response Time : N.A Think Time : N.A Minimum Instruction Time : 0

Correct Marks : 5 Wrong Marks : 1

Question Key Details :

Key	Value
Comprehension	MCQ

जब कुल उपयोगिता स्थिर होती है तो सीमान्त उपयोगिता _____ होगी।

- (1) अधिकतम
- (2) शून्य
- (3) ऋणात्मक
- (4) निम्नतम

Options :

212807127373. 1

212807127374. 2

212807127375. 3

212807127376. 4

Question Number : 465 Question Id : 21280731845 Question Type : MCQ Option Shuffling : No Is Question Mandatory : No Calculator : None
Response Time : N.A Think Time : N.A Minimum Instruction Time : 0

Correct Marks : 5 Wrong Marks : 1

Question Key Details :

Key	Value
Comprehension	MCQ

Identify the correct statements from the following :

- (A) Deforestation means planting of more and more trees
- (B) Deforestation leads to biodiversity loss
- (C) Deforestation contributes in the GDP of the country
- (D) Deforestation leads to noise pollution
- (E) Environment degradation is induced by poverty in India

Choose the **correct** answer from the options given below :

- (1) (A) and (B) only
- (2) (D) and (E) only
- (3) (B) and (E) only
- (4) (C) and (E) only

Options :

212807127377. 1

212807127378. 2

212807127379. 3

212807127380. 4

Question Number : 465 Question Id : 21280731845 Question Type : MCQ Option Shuffling : No Is Question Mandatory : No Calculator : None
Response Time : N.A Think Time : N.A Minimum Instruction Time : 0

Correct Marks : 5 Wrong Marks : 1

Question Key Details :

Key	Value
Comprehension	MCQ

निम्न लिखित में से सही कथन की पहचान कीजिए :

- (A) अवन्यीकरण का अर्थ अधिक से अधिक वृक्षारोपण करना।
- (B) अवन्यीकरण जैव विविधता को समाप्त करता है।
- (C) अवन्यीकरण देश के सकल घरेलू उत्पादन में सहयोग करता है।
- (D) अवन्यीकरण ध्वनि प्रदूषण को बढ़ाता है।
- (E) भारत में गरीबी द्वारा पर्यावरण का निम्नीकरण (क्षय) होता है।

नीचे दिए गए विकल्पों में से सही उत्तर का चयन कीजिए :

- (1) केवल (A) और (B)
- (2) केवल (D) और (E)
- (3) केवल (B) और (E)
- (4) केवल (C) और (E)

Options :

- 212807127377. 1
- 212807127378. 2
- 212807127379. 3
- 212807127380. 4

Question Number : 466 Question Id : 21280731846 Question Type : MCQ Option Shuffling : No Is Question Mandatory : No Calculator : None Response Time : N.A Think Time : N.A Minimum Instruction Time : 0

Correct Marks : 5 Wrong Marks : 1

Question Key Details :

Key	Value
Comprehension	MCQ

What is the other name of the central problem of economy-For whom to produce ?

- (1) Problem of distribution
- (2) Problem of allocation of resources
- (3) Problem of quantities of production
- (4) Problem of choice of techniques

Options :

- 212807127381. 1
- 212807127382. 2
- 212807127383. 3
- 212807127384. 4

Question Number : 466 Question Id : 21280731846 Question Type : MCQ Option Shuffling : No Is Question Mandatory : No Calculator : None Response Time : N.A Think Time : N.A Minimum Instruction Time : 0

Correct Marks : 5 Wrong Marks : 1

Question Key Details :

Key	Value
Comprehension	MCQ

अर्थव्यवस्था की केन्द्रीय समस्या – 'उत्पादन किसके लिए किया जाय' का दूसरा नाम क्या है ?

- (1) वितरण की समस्या
- (2) संसाधनों के आंबंटन की समस्या
- (3) उत्पादन की मात्रा की समस्या
- (4) तकनीक के चुनाव की समस्या

Options :

212807127381. 1
212807127382. 2
212807127383. 3
212807127384. 4

Question Number : 467 Question Id : 21280731847 Question Type : MCQ Option Shuffling : No Is Question Mandatory : No Calculator : None
Response Time : N.A Think Time : N.A Minimum Instruction Time : 0

Correct Marks : 5 Wrong Marks : 1

Question Key Details :

Key	Value
Comprehension	MCQ

_____ is the rate at which RBI borrows money from Commercial Banks.

- (1) Bank Rate
- (2) Reverse Repo Rate
- (3) Repo Rate
- (4) Cash Reserve Ratio

Options :

212807127385. 1
212807127386. 2
212807127387. 3
212807127388. 4

Question Number : 467 Question Id : 21280731847 Question Type : MCQ Option Shuffling : No Is Question Mandatory : No Calculator : None
Response Time : N.A Think Time : N.A Minimum Instruction Time : 0

Correct Marks : 5 Wrong Marks : 1

Question Key Details :

Key	Value
Comprehension	MCQ

(RBI) केन्द्रीय बैंक द्वारा व्यावसायिक बैंको को उधार _____ की दर पर दिया जाता है।

- (1) बैंक दर
- (2) उल्ट रेपो रेट
- (3) रेपो रेट
- (4) नकद कोष अनुपात

Options :

212807127385. 1
212807127386. 2
212807127387. 3
212807127388. 4

Question Number : 468 Question Id : 21280731848 Question Type : MCQ Option Shuffling : No Is Question Mandatory : No Calculator : None
Response Time : N.A Think Time : N.A Minimum Instruction Time : 0

Correct Marks : 5 Wrong Marks : 1

Question Key Details :

Key	Value
Comprehension	MCQ

Borrowings in government budget shows _____ deficit.

- (1) Primary
- (2) Revenue
- (3) Fiscal
- (4) Secondary

Options :

212807127389. 1

212807127390. 2
212807127391. 3
212807127392. 4

Question Number : 468 Question Id : 21280731848 Question Type : MCQ Option Shuffling : No Is Question Mandatory : No Calculator : None
Response Time : N.A Think Time : N.A Minimum Instruction Time : 0

Correct Marks : 5 Wrong Marks : 1

Question Key Details :

Key	Value
Comprehension	MCQ

सरकारी बजट में उधार/ऋण दर्शाता है _____ धाटा।

- (1) प्राथमिक
- (2) राजस्व
- (3) राजकोषीय
- (4) द्वितीयक

Options :

212807127389. 1
212807127390. 2
212807127391. 3
212807127392. 4

Question Number : 469 Question Id : 21280731849 Question Type : MCQ Option Shuffling : No Is Question Mandatory : No Calculator : None
Response Time : N.A Think Time : N.A Minimum Instruction Time : 0

Correct Marks : 5 Wrong Marks : 1

Question Key Details :

Key	Value
Comprehension	MCQ

GDP at factor cost may be derived from using one of the following formula. Choose the correct.

- (1) $GDP_{FC} = GDP_{MP} - NFIA$
- (2) $GDP_{FC} = GDP_{MP} - NIT$
- (3) $GDP_{FC} = GDP_{MP} - Depr$
- (4) $GDP_{FC} = GDP_{MP} + NFIA$

Options :

212807127393. 1
212807127394. 2
212807127395. 3
212807127396. 4

Question Number : 469 Question Id : 21280731849 Question Type : MCQ Option Shuffling : No Is Question Mandatory : No Calculator : None
Response Time : N.A Think Time : N.A Minimum Instruction Time : 0

Correct Marks : 5 Wrong Marks : 1

Question Key Details :

Key	Value
Comprehension	MCQ

निम्नलिखित सूत्रों में से साधन लागत पर सकल घरेलू उत्पाद (GDP_{FC}) की गणना की जा सकती है। सही उत्तर का चुनाव कीजिए :

- (1) $GDP_{FC} = GDP_{MP} - NFIA$
- (2) $GDP_{FC} = GDP_{MP} - NIT$
- (3) $GDP_{FC} = GDP_{MP} - Depr$
- (4) $GDP_{FC} = GDP_{MP} + NFIA$

Options :

212807127393. 1
212807127394. 2
212807127395. 3
212807127396. 4

Question Number : 470 Question Id : 21280731850 Question Type : MCQ Option Shuffling : No Is Question Mandatory : No Calculator : None
Response Time : N.A Think Time : N.A Minimum Instruction Time : 0

Correct Marks : 5 Wrong Marks : 1

Question Key Details :

Key	Value
Comprehension	MCQ

Among the followings which is not included in Capital Account Balance ?

- (1) Gifts and Donations
- (2) Flow of Banking Capital
- (3) Flow of Gold
- (4) Loans

Options :

212807127397. 1
212807127398. 2
212807127399. 3
212807127400. 4

Question Number : 470 Question Id : 21280731850 Question Type : MCQ Option Shuffling : No Is Question Mandatory : No Calculator : None
Response Time : N.A Think Time : N.A Minimum Instruction Time : 0

Correct Marks : 5 Wrong Marks : 1

Question Key Details :

Key	Value
Comprehension	MCQ

निम्नलिखित में से किसको पूंजीगत खाता शेष में शामिल नहीं किया जाता है ?

- (1) गिफ्ट्स और अनुदान
- (2) बैंक की पूँजी का प्रवाह
- (3) स्वर्ण का प्रवाह
- (4) कर्ज/ऋण

Options :

212807127397. 1
212807127398. 2
212807127399. 3
212807127400. 4

Question Number : 471 Question Id : 21280731851 Question Type : MCQ Option Shuffling : No Is Question Mandatory : No Calculator : None
Response Time : N.A Think Time : N.A Minimum Instruction Time : 0

Correct Marks : 5 Wrong Marks : 1

Question Key Details :

Key	Value
Comprehension	MCQ

The first and foremost role of money is that it acts as a :

- (1) Unit of account
- (2) Medium of exchange
- (3) Standard of deferred payment
- (4) Store of value

Options :

212807127401. 1

212807127402. 2
212807127403. 3
212807127404. 4

Question Number : 471 Question Id : 21280731851 Question Type : MCQ Option Shuffling : No Is Question Mandatory : No Calculator : None
Response Time : N.A Think Time : N.A Minimum Instruction Time : 0

Correct Marks : 5 Wrong Marks : 1

Question Key Details :

Key	Value
Comprehension	MCQ

प्रथम तथा सर्व प्रमुख मुद्रा की भूमिका किस रूप में होती है ?

- (1) इकाई का मापक
- (2) विनिमय का माध्यम
- (3) भविष्य के भुगतान के रूप में
- (4) संचय के रूप में

Options :

212807127401. 1
212807127402. 2
212807127403. 3
212807127404. 4

Question Number : 472 Question Id : 21280731852 Question Type : MCQ Option Shuffling : No Is Question Mandatory : No Calculator : None
Response Time : N.A Think Time : N.A Minimum Instruction Time : 0

Correct Marks : 5 Wrong Marks : 1

Question Key Details :

Key	Value
Comprehension	MCQ

Match List - I with List - II.

List - I

- (A) Balance of Trade
- (B) Balance of payment
- (C) Net invisibles
- (D) Balance on capital accounts

List - II

- (I) International transaction related to financial assets
- (II) Export and import of services
- (III) Goods, Service and Transaction in assests
- (IV) Export and import of goods

Choose the **correct** answer from the options given below :

- (1) (A)-(I), (B)-(III), (C)-(II), (D)-(IV)
- (2) (A)-(IV), (B)-(III), (C)-(II), (D)-(I)
- (3) (A)-(II), (B)-(III), (C)-(IV), (D)-(I)
- (4) (A)-(I), (B)-(IV), (C)-(II), (D)-(III)

Options :

212807127405. 1
212807127406. 2
212807127407. 3
212807127408. 4

Question Number : 472 Question Id : 21280731852 Question Type : MCQ Option Shuffling : No Is Question Mandatory : No Calculator : None
Response Time : N.A Think Time : N.A Minimum Instruction Time : 0

Correct Marks : 5 Wrong Marks : 1

Question Key Details :

Key	Value
Comprehension	MCQ

सूची-I से सूची-II का मिलान कीजिए :

सूची-I	सूची-II
(A) व्यापार शेष	(I) आर्थिक सम्पत्तियों से सम्बन्धित अन्तर-राष्ट्रीय लेन-देन
(B) भुगतान शेष	(II) सेवाओं का निर्यात और आयात
(C) निवल अदृश्य	(III) वस्तुओं, सेवाओं और परिसम्पत्तियों का लेन-देन
(D) पूँजीगत खाता का शेष	(IV) वस्तुओं का निर्यात और आयात

नीचे दिए गए विकल्पों में से सही उत्तर का चयन कीजिए :

- (1) (A)-(I), (B)-(III), (C)-(II), (D)-(IV)
- (2) (A)-(IV), (B)-(III), (C)-(II), (D)-(I)
- (3) (A)-(II), (B)-(III), (C)-(IV), (D)-(I)
- (4) (A)-(I), (B)-(IV), (C)-(II), (D)-(III)

Options :

212807127405. 1
212807127406. 2
212807127407. 3
212807127408. 4

Question Number : 473 Question Id : 21280731853 Question Type : MCQ Option Shuffling : No Is Question Mandatory : No Calculator : None
Response Time : N.A Think Time : N.A Minimum Instruction Time : 0

Correct Marks : 5 Wrong Marks : 1

Question Key Details :

Key	Value
Comprehension	MCQ

The British rule in India led to _____.

- (A) Collapse of India's world famous Handicraft industry
- (B) Development of Modern industry
- (C) Development of Railways
- (D) Growth of education sector

Choose the correct answer from the options given below :

- (1) (A), and (C) only
- (2) (A), and (B) only
- (3) (C), and (D) only
- (4) (B), and (C) only

Options :

212807127409. 1
212807127410. 2
212807127411. 3
212807127412. 4

Question Number : 473 Question Id : 21280731853 Question Type : MCQ Option Shuffling : No Is Question Mandatory : No Calculator : None
Response Time : N.A Think Time : N.A Minimum Instruction Time : 0

Correct Marks : 5 Wrong Marks : 1

Question Key Details :

Key	Value
Comprehension	MCQ

भारत में ब्रिटिश शासन का प्रभाव _____ ।

- (A) भारत के विश्व प्रसिद्ध हस्तशिल्प उद्योग का पतन
- (B) आधुनिक उद्योग का विकास
- (C) रेलवे का विकास
- (D) शिक्षा के क्षेत्र का विकास

नीचे दिए गए विकल्पों में से सही उत्तर का चयन कीजिए :

- (1) केवल (A), और (C)
- (2) केवल (A), और (B)
- (3) केवल (C), और (D)
- (4) केवल (B), और (C)

Options :

- 212807127409. 1
- 212807127410. 2
- 212807127411. 3
- 212807127412. 4

Question Number : 474 Question Id : 21280731854 Question Type : MCQ Option Shuffling : No Is Question Mandatory : No Calculator : None
Response Time : N.A Think Time : N.A Minimum Instruction Time : 0

Correct Marks : 5 Wrong Marks : 1

Question Key Details :

Key	Value
Comprehension	MCQ

Which is not a part of progress of china ?

- (1) Great leap forward
- (2) One child norm
- (3) Capitalist economy
- (4) Commune system

Options :

- 212807127413. 1
- 212807127414. 2
- 212807127415. 3
- 212807127416. 4

Question Number : 474 Question Id : 21280731854 Question Type : MCQ Option Shuffling : No Is Question Mandatory : No Calculator : None
Response Time : N.A Think Time : N.A Minimum Instruction Time : 0

Correct Marks : 5 Wrong Marks : 1

Question Key Details :

Key	Value
Comprehension	MCQ

निम्नलिखित में से कौन चीन के विकास से हिस्सा नहीं है ?

- (1) ग्रेट लीप फारवर्ड
- (2) एक शिशु नीति
- (3) पूँजीवादी अर्थव्यवस्था
- (4) कम्यून व्यवस्था

Options :

- 212807127413. 1

212807127414. 2
212807127415. 3
212807127416. 4

Question Number : 475 Question Id : 21280731855 Question Type : MCQ Option Shuffling : No Is Question Mandatory : No Calculator : None
Response Time : N.A Think Time : N.A Minimum Instruction Time : 0

Correct Marks : 5 Wrong Marks : 1

Question Key Details :

Key	Value
Comprehension	MCQ

Match List - I with List - II.

List - I

- (A) Institution that accept public deposits
- (B) The central Bank of India
- (C) Function of a Central bank
- (D) Function of Commercial bank

List - II

- (I) Issuance of currency notes
- (II) Acceptance of deposit from public
- (III) Reserve bank of India
- (IV) Commercial bank

Choose the correct answer from the options given below :

- (1) (A)-(IV), (B)-(I), (C)-(II), (D)-(III)
- (2) (A)-(IV), (B)-(III), (C)-(I), (D)-(II)
- (3) (A)-(II), (B)-(III), (C)-(IV), (D)-(I)
- (4) (A)-(I), (B)-(III), (C)-(II), (D)-(IV)

Options :

212807127417. 1
212807127418. 2
212807127419. 3
212807127420. 4

Question Number : 475 Question Id : 21280731855 Question Type : MCQ Option Shuffling : No Is Question Mandatory : No Calculator : None
Response Time : N.A Think Time : N.A Minimum Instruction Time : 0

Correct Marks : 5 Wrong Marks : 1

Question Key Details :

Key	Value
Comprehension	MCQ

सूची-I से सूची-II का मिलान कीजिए :

सूची-I

- (A) संस्था जो जनता की जमा स्वीकार करता है
- (B) भारतीय रिजर्व बैंक
- (C) केन्द्रीय बैंक का कार्य
- (D) व्यावसायिक बैंक का कार्य

सूची-II

- (I) मुद्रा का निर्गमन
- (II) जनता के जमा को स्वीकार करना
- (III) भारतीय रिजर्व बैंक
- (IV) व्यावसायिक बैंक

नीचे दिए गए विकल्पों में से सही उत्तर का चयन कीजिए :

- (1) (A)-(IV), (B)-(I), (C)-(II), (D)-(III)
- (2) (A)-(IV), (B)-(III), (C)-(I), (D)-(II)
- (3) (A)-(II), (B)-(III), (C)-(IV), (D)-(I)
- (4) (A)-(I), (B)-(III), (C)-(II), (D)-(IV)

Options :

212807127417. 1
212807127418. 2
212807127419. 3

212807127420. 4

Sub-Section Number : 2
Sub-Section Id : 2128072512
Question Shuffling Allowed : No
Is Section Default? : null

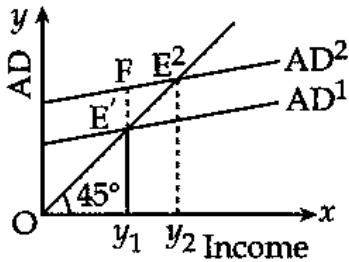
Question Number : 476 Question Id : 21280731856 Question Type : MCQ Option Shuffling : No Is Question Mandatory : No Calculator : None
Response Time : N.A Think Time : N.A Minimum Instruction Time : 0

Correct Marks : 5 Wrong Marks : 1

Question Key Details :

Key	Value
Comprehension	Comp1

Based on the following diagram answer the question :



The gap E'F in the diagram indicate _____.

- (1) Deficient demand
- (2) Equilibrium income
- (3) Excess demand
- (4) Full employment level of output

Options :

212807127421. 1
212807127422. 2
212807127423. 3
212807127424. 4

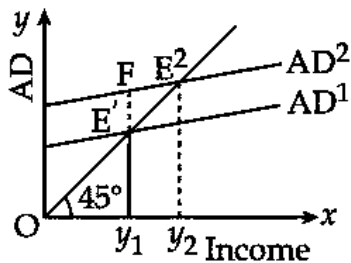
Question Number : 476 Question Id : 21280731856 Question Type : MCQ Option Shuffling : No Is Question Mandatory : No Calculator : None
Response Time : N.A Think Time : N.A Minimum Instruction Time : 0

Correct Marks : 5 Wrong Marks : 1

Question Key Details :

Key	Value
Comprehension	Comp1

दिए गए मानचित्र (आरेख) के आधार पर प्रश्न का उत्तर दीजिए :



रेखाचित्र में $E^1 F$ का गैप/अन्तर दर्शाता है _____ ।

- (1) न्यून माँग (Deficient demand)
- (2) साम्य आय (Equilibrium income)
- (3) अत्यधिक माँग
- (4) पूर्ण रोजगार का स्तर

Options :

212807127421. 1
212807127422. 2
212807127423. 3
212807127424. 4

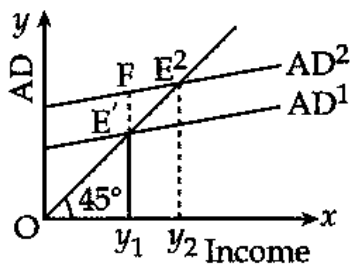
Question Number : 477 Question Id : 21280731857 Question Type : MCQ Option Shuffling : No Is Question Mandatory : No Calculator : None Response Time : N.A Think Time : N.A Minimum Instruction Time : 0

Correct Marks : 5 Wrong Marks : 1

Question Key Details :

Key	Value
Comprehension	Compl

Based on the following diagram answer the question :



Given initial investment is ₹ 200 crores and $MPC = 0.8$. If autonomous investment increases by ₹ 50 crores, the income will increase by ₹ _____ crores.

- (1) 150
- (2) 200
- (3) 250
- (4) 300

Options :

212807127425. 1
212807127426. 2
212807127427. 3
212807127428. 4

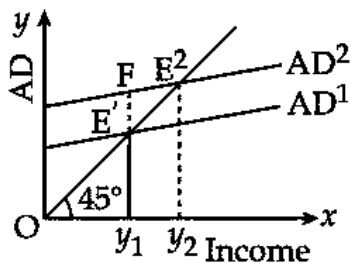
Question Number : 477 Question Id : 21280731857 Question Type : MCQ Option Shuffling : No Is Question Mandatory : No Calculator : None Response Time : N.A Think Time : N.A Minimum Instruction Time : 0

Correct Marks : 5 Wrong Marks : 1

Question Key Details :

Key	Value
Comprehension	Comp1

दिए गए मानचित्र (आरेख) के आधार पर प्रश्न का उत्तर दीजिए :



प्रारम्भिक निवेश ₹ 200 करोड़ और $MPC = 0.8$ है। यदि स्वायत्त निवेश में ₹ 50 करोड़ की वृद्धि होती है, तो आय में वृद्धि ₹ _____ करोड़ की होगी।

- (1) 150
- (2) 200
- (3) 250
- (4) 300

Options :

212807127425. 1
212807127426. 2
212807127427. 3
212807127428. 4

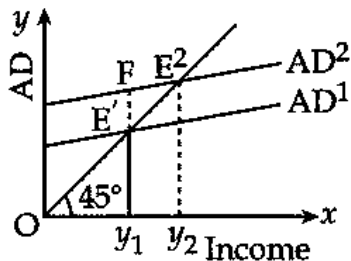
Question Number : 478 Question Id : 21280731858 Question Type : MCQ Option Shuffling : No Is Question Mandatory : No Calculator : None Response Time : N.A Think Time : N.A Minimum Instruction Time : 0

Correct Marks : 5 Wrong Marks : 1

Question Key Details :

Key	Value
Comprehension	Comp1

Based on the following diagram answer the question :



Identify the correct statement from the following statements :

- (1) MPS and investment multiplier are directly related to each other
- (2) MPS and investment multiplier are inversely related to each other
- (3) MPC and investment multiplier are directly related to each other
- (4) MPC and MPS both have no relation with investment multiplier

Options :

212807127429. 1
212807127430. 2
212807127431. 3
212807127432. 4

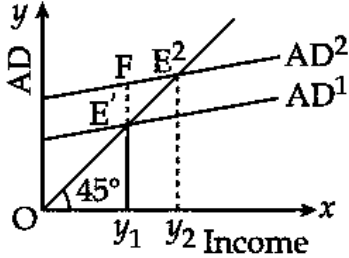
Question Number : 478 Question Id : 21280731858 Question Type : MCQ Option Shuffling : No Is Question Mandatory : No Calculator : None
Response Time : N.A Think Time : N.A Minimum Instruction Time : 0

Correct Marks : 5 Wrong Marks : 1

Question Key Details :

Key	Value
Comprehension	Comp1

दिए गए मानचित्र (आरेख) के आधार पर प्रश्न का उत्तर दीजिए :



निम्नलिखित कथनों से सही कथन की पहचान कीजिए :

- (1) MPS और निवेश गुणक एक दूसरे से प्रत्यक्ष रूप से सम्बन्धित है।
- (2) MPS और निवेश गुणक एक दूसरे से प्रतिलोम जुड़े होते हैं।
- (3) MPC और निवेश गुणक एक दूसरे से प्रत्यक्ष जुड़े होते हैं।
- (4) MPC और MPS का निवेश गुणक से सम्बन्ध नहीं होता है।

Options :

212807127429. 1
212807127430. 2
212807127431. 3
212807127432. 4

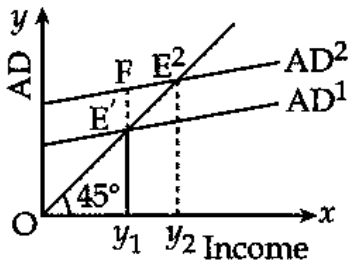
Question Number : 479 Question Id : 21280731859 Question Type : MCQ Option Shuffling : No Is Question Mandatory : No Calculator : None
Response Time : N.A Think Time : N.A Minimum Instruction Time : 0

Correct Marks : 5 Wrong Marks : 1

Question Key Details :

Key	Value
Comprehension	Comp1

Based on the following diagram answer the question :



To deal with the gap E'F, the central Bank will _____.

- (1) Decrease the Bank Rate
- (2) Decrease the cash reserve ratio
- (3) Decrease the Repo rate
- (4) Sells securities in the open market

Options :

212807127433. 1
212807127434. 2

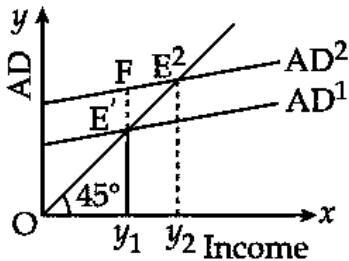
212807127435. 3
212807127436. 4

Question Number : 479 Question Id : 21280731859 Question Type : MCQ Option Shuffling : No Is Question Mandatory : No Calculator : None
Response Time : N.A Think Time : N.A Minimum Instruction Time : 0
Correct Marks : 5 Wrong Marks : 1

Question Key Details :

Key	Value
Comprehension	Comp1

दिए गए मानचित्र (आरेख) के आधार पर प्रश्न का उत्तर दीजिए :



केन्द्रीय बैंक के द्वारा E'F का गैप (अन्तर) होने पर _____ दिया जाएगा।

- (1) बैंक दर में कमी
- (2) नकद कोष अनुपात में कमी
- (3) रेपो रोट में कमी
- (4) खुले बाजार में प्रतिभूतियों की विक्री

Options :

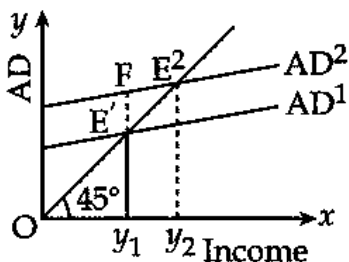
212807127433. 1
212807127434. 2
212807127435. 3
212807127436. 4

Question Number : 480 Question Id : 21280731860 Question Type : MCQ Option Shuffling : No Is Question Mandatory : No Calculator : None
Response Time : N.A Think Time : N.A Minimum Instruction Time : 0
Correct Marks : 5 Wrong Marks : 1

Question Key Details :

Key	Value
Comprehension	Comp1

Based on the following diagram answer the question :



Identify the reason for shifting of the Aggregate Demand (AD) curve from AD¹ to AD².

- (1) Increase in savings by households
- (2) Increase in taxes by government
- (3) Increase in imports
- (4) Increase in investment

Options :

212807127437. 1
212807127438. 2
212807127439. 3
212807127440. 4

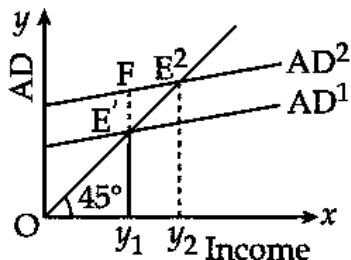
Question Number : 480 Question Id : 21280731860 Question Type : MCQ Option Shuffling : No Is Question Mandatory : No Calculator : None
Response Time : N.A Think Time : N.A Minimum Instruction Time : 0

Correct Marks : 5 Wrong Marks : 1

Question Key Details :

Key	Value
Comprehension	Comp1

दिए गए मानचित्र (आरेख) के आधार पर प्रश्न का उत्तर दीजिए :



समग्र माँग का AD^1 बक्र से AD^2 बक्र की तरफ खिसकने के कारण की पहचान कीजिए :

- (1) गृहस्थ द्वारा बचत में वृद्धि
- (2) सरकार द्वारा कर में वृद्धि
- (3) आयात में वृद्धि
- (4) निवेश में वृद्धि

Options :

212807127437. 1
212807127438. 2
212807127439. 3
212807127440. 4

Sub-Section Number :

3

Sub-Section Id :

2128072513

Question Shuffling Allowed :

No

Is Section Default? :

null

Question Number : 481 Question Id : 21280731861 Question Type : MCQ Option Shuffling : No Is Question Mandatory : No Calculator : None
Response Time : N.A Think Time : N.A Minimum Instruction Time : 0

Correct Marks : 5 Wrong Marks : 1

Question Key Details :

Key	Value
Comprehension	Comp2

Read the below paragraph carefully answer the question :

Case study-II

Poverty has many faces, which have been changing from place to place and across time and has been described in many ways. In pre-independent India, Dadabhai Naoroji was first to discuss the concept of poverty line. In post-independent India, there have been several attempts to work out a mechanism to identify the number of poor in the country. The official data on poverty is made to the public by the planning commission. It is estimated on the basis of consumption expenditure data collected by the National Sample Survey organisation. Most poverty alleviation programmes implemented are based on the perspective of the five year plans. The government has a variety of programmes to generate wage employment for the poor unskilled people living in rural area.

Which of the following is correct answer to discuss the concept of a poverty line in pre-independent India ?

- (1) Minimum expenditure cost
- (2) Jail cost living
- (3) Calculate expenditure on base price
- (4) Adult expenditure cost

Options :

212807127441. 1
212807127442. 2
212807127443. 3
212807127444. 4

Question Number : 481 Question Id : 21280731861 Question Type : MCQ Option Shuffling : No Is Question Mandatory : No Calculator : None
Response Time : N.A Think Time : N.A Minimum Instruction Time : 0

Correct Marks : 5 Wrong Marks : 1

Question Key Details :

Key	Value
Comprehension	Comp2

दिए गए अनुच्छेद के आधार पर प्रश्न का उत्तर दीजिए :

प्रकरण अध्ययन

निर्धनता के अनेको रूप हैं, जो समय के अनुसार तथा एक स्थान से दूसरे स्थान पर बदलता रहता है, जिसकी व्याख्या विभिन्न रूपों में की जा सकती है। स्वतंत्रता पूर्व भारत में सर्व प्रथम दादा भाई नौरजी ने निर्धनता-रेखा की अवधारणा पर विचार किया था। स्वतंत्रता प्राप्ति के बाद भारत में निर्धनता जनानुपात का आकलन के कई प्रयास किए गए। योजना आयोग के द्वारा निर्धनता से सम्बन्धित अधिकारिक आँकड़े दिए गए। इसका आकलन नेशनल सैम्पल सर्वे आर्गनाइजेशन द्वारा उपभोक्ता और व्यय के आधार पर किया गया। मुख्य निर्धनता उन्मूलन कार्यक्रमों को पंच वर्षीय योजनाओं के परिप्रेक्ष्य के आधार पर लागू किया गया। सरकार द्वारा अनेकों योजनाओं को ग्रामीण क्षेत्रों में रहने वाले अप्राशिक्षित निर्धनों के जीवन की सुधारने के लिए रोजगार तथा मजदूरी प्रदान करने की व्यवस्था की गयी है।

स्वतंत्रता पूर्व भारत में निर्धनता रेखा की अवधारण पर विचार करने के लिए दिए गए मर्दों में से सही उत्तर का चुनाव कीजिए :

- (1) निम्नतम व्यय लागत
- (2) जेल की निर्वाह लागत
- (3) (वेस) आधार कीमत पर व्यय की गणना
- (4) वयस्क व्यय लागत

Options :

212807127441. 1

212807127442. 2
212807127443. 3
212807127444. 4

Question Number : 482 Question Id : 21280731862 Question Type : MCQ Option Shuffling : No Is Question Mandatory : No Calculator : None
Response Time : N.A Think Time : N.A Minimum Instruction Time : 0

Correct Marks : 5 Wrong Marks : 1

Question Key Details :

Key	Value
Comprehension	Comp2

Read the below paragraph carefully ansewr the question :

Case study-II

Poverty has many faces, which have been changing from place to place and across time and has been described in many ways. In pre-independent India, Dadabhai Naoroji was first to discuss the concept of poverty line. In post-independent India, there have been several attempts to work out a mechanism to identify the number of poor in the country. The official data on poverty is made to the public by the planning commission. It is estimated on the basis of consumption expenditure data collected by the National Sample Survey organisation. Most poverty alleviation programmes implemented are based on the perspective of the five year plans. The government has a variety of programmes to generate wage employment for the poor unskilled people living in rural area.

When did the 'Task force on projections of minimum needs and effective consumption demand' form to identify the number of poor in our country ?

- (1) 1962
- (2) 1976
- (3) 1979
- (4) 1989

Options :

212807127445. 1
212807127446. 2
212807127447. 3
212807127448. 4

Question Number : 482 Question Id : 21280731862 Question Type : MCQ Option Shuffling : No Is Question Mandatory : No Calculator : None
Response Time : N.A Think Time : N.A Minimum Instruction Time : 0

Correct Marks : 5 Wrong Marks : 1

Question Key Details :

Key	Value
Comprehension	Comp2

दिए गए अनुच्छेद के आधार पर प्रश्न का उत्तर दीजिए :

प्रकरण अध्ययन

निर्धनता के अनेको रूप है, जो समय के अनुसार तथा एक स्थान से दूसरे स्थान पर बदलता रहता है, जिसकी व्याख्या विभिन्न रूपों में की जा सकती है। स्वतंत्रता पूर्व भारत में सर्व प्रथम दादा भाई नौरजी ने निर्धनता-रेखा की अवधारणा पर बिचार किया था। स्वतंत्रता प्राप्ति के बाद भारत में निर्धनता जनानुपात का आकलन के कई प्रयास किए गए। योजना आयोग के द्वारा निर्धनता से सम्बन्धित आधिकारिक आँकड़े दिए गए। इसका आकलन नेशनल सैम्पल सर्वे आर्गनाइजेशन द्वारा उपभोक्ता और व्यय के आधार पर किया गया। मुख्य निर्धनता उन्मूलन कार्यक्रमों को पंच वर्षीय योजनाओं के परिप्रेक्ष्य के आधार पर लागू किया गया। सरकार द्वारा अनेकों योजनाओं को ग्रामीण क्षेत्रों में रहने वाले अप्राशिक्षित निर्धनों के जीवन की सुधारने के लिए रोजगार तथा मजदूरी प्रदान करने की व्यवस्था की गयी है।

भारत में निर्धन लोगो की संख्या को प्राप्त करने के लिए 'प्रभावी उपयोग माँग और न्यूनतम आवश्यकता अनुमानन कधि बल' को कव गणित किया गया था ?

- (1) 1962
- (2) 1976
- (3) 1979
- (4) 1989

Options :

212807127445. 1
212807127446. 2
212807127447. 3
212807127448. 4

Question Number : 483 Question Id : 21280731863 Question Type : MCQ Option Shuffling : No Is Question Mandatory : No Calculator : None
Response Time : N.A Think Time : N.A Minimum Instruction Time : 0

Correct Marks : 5 Wrong Marks : 1

Question Key Details :

Key	Value
Comprehension	Comp2

Read the below paragraph carefully answer the question :

Case study-II

Poverty has many faces, which have been changing from place to place and across time and has been described in many ways. In pre-independent India, Dadabhai Naoroji was first to discuss the concept of poverty line. In post-independent India, there have been several attempts to work out a mechanism to identify the number of poor in the country. The official data on poverty is made to the public by the planning commission. It is estimated on the basis of consumption expenditure data collected by the National Sample Survey organisation. Most poverty alleviation programmes implemented are based on the perspective of the five year plans. The government has a variety of programmes to generate wage employment for the poor unskilled people living in rural area.

From 1973 to 2012 the poverty levels in some states were above the national poverty level. Choose the correct answer from the options :

- (1) Odisha, Bihar, Uttar pradesh and Assam
- (2) Odisha, Madhya pradesh, Bihar and Uttar pradesh
- (3) Bihar, Odisha, Assam and West Bengal
- (4) Bihar, Assam, Uttar pradesh and West Bengal

Options :

212807127449. 1
212807127450. 2
212807127451. 3
212807127452. 4

Question Number : 483 Question Id : 21280731863 Question Type : MCQ Option Shuffling : No Is Question Mandatory : No Calculator : None
Response Time : N.A Think Time : N.A Minimum Instruction Time : 0

Correct Marks : 5 Wrong Marks : 1

Question Key Details :

Key	Value
Comprehension	Comp2

दिए गए अनुच्छेद के आधार पर प्रश्न का उत्तर दीजिए :

प्रकरण अध्ययन

निर्धनता के अनेको रूप है, जो समय के अनुसार तथा एक स्थान से दूसरे स्थान पर बदलता रहता है, जिसकी व्याख्या विभिन्न रूपों में की जा सकती है। स्वतंत्रता पूर्व भारत में सर्व प्रथम दादा भाई नौरजी ने निर्धनता-रेखा की अवधारणा पर बिचार किया था। स्वतंत्रता प्राप्ति के बाद भारत में निर्धनता जनानुपात का आकलन के कई प्रयास किए गए। योजना आयोग के द्वारा निर्धनता से सम्बन्धित अधिकारिक आँकड़े दिए गए। इसका आकलन नेशनल सैम्पल सर्वे आर्गनाइजेशन द्वारा उपभोक्ता और व्यय के आधार पर किया गया। मुख्य निर्धनता उन्मूलन कार्यक्रमों को पंच वर्षीय योजनाओं के परिप्रेक्ष्य के आधार पर लागू किया गया। सरकार द्वारा अनेकों योजनाओं को ग्रामीण क्षेत्रों में रहने वाले अप्राशिक्षित निर्धनों के जीवन की सुधारने के लिए रोजगार तथा मजदूरी प्रदान करने की व्यवस्था की गयी है।

1973 से 2012 तक निर्धनता का स्तर कुछ राज्यों में राष्ट्रीय निर्धनता स्तर से ऊपर था। दिए गए विकल्पों में सही का चुनाव कीजिए :

- (1) उड़ीसा, बिहार, उत्तर प्रदेश और आसाम
- (2) उड़ीसा, मध्यप्रदेश, बिहार और उत्तर प्रदेश
- (3) बिहार, उड़ीसा, आसाम और पश्चिम बंगाल
- (4) बिहार, आसाम, उत्तर प्रदेश और पश्चिम बंगाल

Options :

212807127449. 1
212807127450. 2
212807127451. 3
212807127452. 4

Question Number : 484 Question Id : 21280731864 Question Type : MCQ Option Shuffling : No Is Question Mandatory : No Calculator : None
Response Time : N.A Think Time : N.A Minimum Instruction Time : 0

Correct Marks : 5 Wrong Marks : 1

Question Key Details :

Key	Value
Comprehension	Comp2

Read the below paragraph carefully answer the question :

Case study-II

Poverty has many faces, which have been changing from place to place and across time and has been described in many ways. In pre-independent India, Dadabhai Naoroji was first to discuss the concept of poverty line. In post-independent India, there have been several attempts to work out a mechanism to identify the number of poor in the country. The official data on poverty is made to the public by the planning commission. It is estimated on the basis of consumption expenditure data collected by the National Sample Survey organisation. Most poverty alleviation programmes implemented are based on the perspective of the five year plans. The government has a variety of programmes to generate wage employment for the poor unskilled people living in rural area.

Which of the following programme provides partial financial assistance to SHGs for self-employment activities ?

- (1) Swarnjayanti Gram Swarozgar Yojana
- (2) Prime minister's Rozgar Yojana
- (3) Self-employment programmes are Rural employment generation programme
- (4) National rural development mission

Options :

212807127453. 1
212807127454. 2
212807127455. 3
212807127456. 4

Question Number : 484 Question Id : 21280731864 Question Type : MCQ Option Shuffling : No Is Question Mandatory : No Calculator : None
Response Time : N.A Think Time : N.A Minimum Instruction Time : 0

Correct Marks : 5 Wrong Marks : 1

Question Key Details :

Key	Value
Comprehension	Comp2

दिए गए अनुच्छेद के आधार पर प्रश्न का उत्तर दीजिए :

प्रकरण अध्ययन

निर्धनता के अनेको रूप है, जो समय के अनुसार तथा एक स्थान से दूसरे स्थान पर बदलता रहता है, जिसकी व्याख्या विभिन्न रूपों में की जा सकती है। स्वतंत्रता पूर्व भारत में सर्व प्रथम दादा भाई नौरजी ने निर्धनता-रेखा की अवधारणा पर बिचार किया था। स्वतंत्रता प्राप्ति के बाद भारत में निर्धनता जनानुपात का आकलन के कई प्रयास किए गए। योजना आयोग के द्वारा निर्धनता से सम्बन्धित अधिकारिक आँकड़े दिए गए। इसका आकलन नेशनल सैम्पल सर्वे आर्गनाइजेशन द्वारा उपभोक्ता और व्यय के आधार पर किया गया। मुख्य निर्धनता उन्मूलन कार्यक्रमों को पंच वर्षीय योजनाओं के परिप्रेक्ष्य के आधार पर लागू किया गया। सरकार द्वारा अनेकों योजनाओं को ग्रामीण क्षेत्रों में रहने वाले अप्राशिक्षित निर्धनों के जीवन की सुधारने के लिए रोजगार तथा मजदूरी प्रदान करने की व्यवस्था की गयी है।

निम्नलिखित में कौन योजना स्व-रोजगार क्रिया-प्रणाली के अन्तर्गत SHGs को आर्थिक सहयोग प्रदान करता है ?

- (1) स्वर्ण जयन्ति ग्राम स्वरोजगार योजना
- (2) प्रधान मंत्री रोजगार योजना
- (3) ग्रामीण रोजगार सृजन योजना, स्व रोजगार योजना है
- (4) राष्ट्रीय ग्रामीण विकास मिशन

Options :

212807127453. 1

212807127454. 2
212807127455. 3
212807127456. 4

Question Number : 485 Question Id : 21280731865 Question Type : MCQ Option Shuffling : No Is Question Mandatory : No Calculator : None
Response Time : N.A Think Time : N.A Minimum Instruction Time : 0

Correct Marks : 5 Wrong Marks : 1

Question Key Details :

Key	Value
Comprehension	Comp2

Read the below paragraph carefully ansewr the question :

Case study-II

Poverty has many faces, which have been changing from place to place and across time and has been described in many ways. In pre-independent India, Dadabhai Naoroji was first to discuss the concept of poverty line. In post-independent India, there have been several attempts to work out a mechanism to identify the number of poor in the country. The official data on poverty is made to the public by the planning commission. It is estimated on the basis of consumption expenditure data collected by the National Sample Survey organisation. Most poverty alleviation programmes implemented are based on the perspective of the five year plans. The government has a variety of programmes to generate wage employment for the poor unskilled people living in rural area.

How many rural workers got employment opportunities under Mahaima Gandhi National Rural Employment Guarantee Act in 2013-2014 ?

- (1) About seven crore
- (2) About five crore
- (3) About 7.5 crore
- (4) About six crore

Options :

212807127457. 1
212807127458. 2
212807127459. 3
212807127460. 4

Question Number : 485 Question Id : 21280731865 Question Type : MCQ Option Shuffling : No Is Question Mandatory : No Calculator : None
Response Time : N.A Think Time : N.A Minimum Instruction Time : 0

Correct Marks : 5 Wrong Marks : 1

Question Key Details :

Key	Value
Comprehension	Comp2

दिए गए अनुच्छेद के आधार पर प्रश्न का उत्तर दीजिए :

प्रकरण अध्ययन

निर्धनता के अनेको रूप है, जो समय के अनुसार तथा एक स्थान से दूसरे स्थान पर बदलता रहता है, जिसकी व्याख्या विभिन्न रूपों में की जा सकती है। स्वतंत्रता पूर्व भारत में सर्व प्रथम दादा भाई नौरजी ने निर्धनता-रेखा की अवधारणा पर बिचार किया था। स्वतंत्रता प्राप्ति के बाद भारत में निर्धनता जनानुपात का आकलन के कई प्रयास किए गए। योजना आयोग के द्वारा निर्धनता से सम्बन्धित अधिकारिक आँकड़े दिए गए। इसका आकलन नेशनल सैम्पल सर्वे आर्गनाइजेशन द्वारा उपभोक्ता और व्यय के आधार पर किया गया। मुख्य निर्धनता उन्मूलन कार्यक्रमों को पंच वर्षीय योजनाओं के परिप्रेक्ष्य के आधार पर लागू किया गया। सरकार द्वारा अनेकों योजनाओं को ग्रामीण क्षेत्रों में रहने वाले अप्राशिक्षित निर्धनों के जीवन की सुधारने के लिए रोजगार तथा मजदूरी प्रदान करने की व्यवस्था की गयी है।

महात्मा गाँधी राष्ट्रीय ग्रामीण रोजगार गारंटी एक्ट 2013-2014 के अन्तर्गत कितने ग्रामीण श्रमिकों को रोजगार का अवसर दिया गया ?

- (1) लगभग सात करोड़
- (2) लगभग पाँच करोड़
- (3) लगभग 7.5 करोड़
- (4) लगभग छ (6) करोड़

Options :

212807127457. 1
212807127458. 2
212807127459. 3
212807127460. 4

Engineering Graphics

Group Number :	16
Group Id :	212807740
Group Maximum Duration :	45
Group Minimum Duration :	45
Show Attended Group? :	No
Edit Attended Group? :	No
Break time :	0
Group Marks :	200
Is this Group for Examiner? :	No
Examiner permission :	Cant View
Show Progress Bar? :	No

Engineering Graphics

Section Id :	212807872
Section Number :	1
Section type :	Online
Mandatory or Optional :	Mandatory
Number of Questions :	50
Number of Questions to be attempted :	40
Section Marks :	200
Enable Mark as Answered Mark for Review and Clear Response :	Yes
Maximum Instruction Time :	0
Sub-Section Number :	1
Sub-Section Id :	2128072514
Question Shuffling Allowed :	Yes
Is Section Default? :	null

Question Number : 486 Question Id : 21280731866 Question Type : MCQ Option Shuffling : No Is Question Mandatory : No Calculator : None
Response Time : N.A Think Time : N.A Minimum Instruction Time : 0

Correct Marks : 5 Wrong Marks : 1

Question Key Details :

Key	Value
Comprehension	MCQ

_____ is used to represent the hidden edges of an object.

- (1) Dash/Dotted line
- (2) Continuous thick line
- (3) Continuous thin line
- (4) Chain thin line

Options :

212807127461. 1
212807127462. 2
212807127463. 3
212807127464. 4

Question Number : 486 Question Id : 21280731866 Question Type : MCQ Option Shuffling : No Is Question Mandatory : No Calculator : None
Response Time : N.A Think Time : N.A Minimum Instruction Time : 0

Correct Marks : 5 Wrong Marks : 1

Question Key Details :

Key	Value
Comprehension	MCQ

वस्तु के छिपे हुए किनारों को _____ से दर्शाया जाता है।

- (1) डैश/डॉटिड रेखा
- (2) सतत मोटी रेखा
- (3) सतत पतली रेखा
- (4) चैन पतली रेखा

Options :

212807127461. 1
212807127462. 2
212807127463. 3
212807127464. 4

Question Number : 487 Question Id : 21280731867 Question Type : MCQ Option Shuffling : No Is Question Mandatory : No Calculator : None
Response Time : N.A Think Time : N.A Minimum Instruction Time : 0

Correct Marks : 5 Wrong Marks : 1

Question Key Details :

Key	Value
Comprehension	MCQ

We need true _____ to draw orthographic views.

- (1) Location and colours
- (2) Shape and location
- (3) Size and location
- (4) Shape and Size

Options :

212807127465. 1
212807127466. 2
212807127467. 3
212807127468. 4

Question Number : 487 Question Id : 21280731867 Question Type : MCQ Option Shuffling : No Is Question Mandatory : No Calculator : None
Response Time : N.A Think Time : N.A Minimum Instruction Time : 0

Correct Marks : 5 Wrong Marks : 1

Question Key Details :

Key	Value
Comprehension	MCQ

हमें लम्बकोणीय दृश्य बनाने के लिये सही _____ की जरूरत है।

- (1) जगह तथा रंग
- (2) आकृति तथा जगह
- (3) आकार तथा जगह
- (4) आकृति तथा आकार

Options :

212807127465. 1
212807127466. 2
212807127467. 3
212807127468. 4

Question Number : 488 Question Id : 21280731868 Question Type : MCQ Option Shuffling : No Is Question Mandatory : No Calculator : None
Response Time : N.A Think Time : N.A Minimum Instruction Time : 0

Correct Marks : 5 Wrong Marks : 1

Question Key Details :

Key	Value
Comprehension	MCQ

A solid without any edge or vertex when visualized from any direction appears as a circle is _____.

- (1) Prism
- (2) Cylinder
- (3) Cone
- (4) Sphere

Options :

212807127469. 1
212807127470. 2
212807127471. 3
212807127472. 4

Question Number : 488 Question Id : 21280731868 Question Type : MCQ Option Shuffling : No Is Question Mandatory : No Calculator : None
Response Time : N.A Think Time : N.A Minimum Instruction Time : 0

Correct Marks : 5 Wrong Marks : 1

Question Key Details :

Key	Value
Comprehension	MCQ

एक ठोस को जो बिना किसी किनारे या कोने के है, जब किसी भी दिशा से देखते हैं, तो वृत्त दिखता है उसे _____ कहते हैं।

- (1) प्रिज्म
- (2) बेलन
- (3) शंकु
- (4) गोला

Options :

212807127469. 1
212807127470. 2
212807127471. 3
212807127472. 4

Question Number : 489 Question Id : 21280731869 Question Type : MCQ Option Shuffling : No Is Question Mandatory : No Calculator : None
Response Time : N.A Think Time : N.A Minimum Instruction Time : 0

Correct Marks : 5 Wrong Marks : 1

Question Key Details :

Key	Value
Comprehension	MCQ

The only difference between isometric view and isometric projection of a cube is its _____.

- (1) angle
- (2) face
- (3) scale used
- (4) axis

Options :

212807127473. 1
212807127474. 2
212807127475. 3
212807127476. 4

Question Number : 489 Question Id : 21280731869 Question Type : MCQ Option Shuffling : No Is Question Mandatory : No Calculator : None
Response Time : N.A Think Time : N.A Minimum Instruction Time : 0

Correct Marks : 5 Wrong Marks : 1

Question Key Details :

Key	Value
Comprehension	MCQ

एक घन के समपरिमाण दृश्य और समपरिमाण प्रक्षेपण के बीच में केवल एक अन्तर इसके _____ का है।

- (1) कोण
- (2) फलक
- (3) पैमाने का प्रयोग
- (4) अक्ष

Options :

212807127473. 1
212807127474. 2
212807127475. 3
212807127476. 4

Question Number : 490 Question Id : 21280731870 Question Type : MCQ Option Shuffling : No Is Question Mandatory : No Calculator : None
Response Time : N.A Think Time : N.A Minimum Instruction Time : 0

Correct Marks : 5 Wrong Marks : 1

Question Key Details :

Key	Value
Comprehension	MCQ

_____ is used for drawing isometric projection.

- (1) Isometric Scale
- (2) Full-size Scale
- (3) Enlarged Scale
- (4) Vernier Scale

Options :

212807127477. 1

212807127478. 2
212807127479. 3
212807127480. 4

Question Number : 490 Question Id : 21280731870 Question Type : MCQ Option Shuffling : No Is Question Mandatory : No Calculator : None
Response Time : N.A Think Time : N.A Minimum Instruction Time : 0

Correct Marks : 5 Wrong Marks : 1

Question Key Details :

Key	Value
Comprehension	MCQ

समपरिमाण प्रक्षेपण को बनाने के लिये _____ का प्रयोग करते है।

- (1) समपरिमाण पैमाना
- (2) पूर्ण आकार का पैमाना
- (3) बढ़ा हुआ पैमाना
- (4) वर्नियर पैमाना

Options :

212807127477. 1
212807127478. 2
212807127479. 3
212807127480. 4

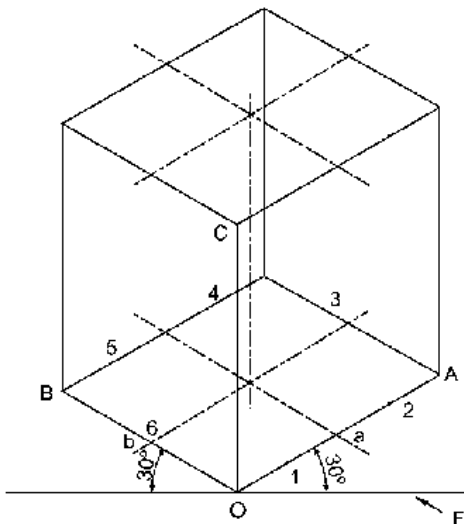
Question Number : 491 Question Id : 21280731871 Question Type : MCQ Option Shuffling : No Is Question Mandatory : No Calculator : None
Response Time : N.A Think Time : N.A Minimum Instruction Time : 0

Correct Marks : 5 Wrong Marks : 1

Question Key Details :

Key	Value
Comprehension	MCQ

Choose the Correct statement for the given figure :



- (1) Its axis is perpendicular to H.P.
- (2) Its axis is perpendicular to V.P.
- (3) Its axis is parallel to both H.P. and V.P.
- (4) Its axis is inclined to H.P.

Options :

212807127481. 1

212807127482. 2

212807127483. 3

212807127484. 4

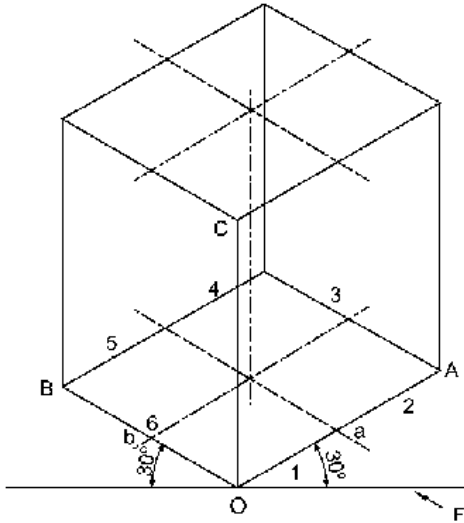
Question Number : 491 Question Id : 21280731871 Question Type : MCQ Option Shuffling : No Is Question Mandatory : No Calculator : None
Response Time : N.A Think Time : N.A Minimum Instruction Time : 0

Correct Marks : 5 Wrong Marks : 1

Question Key Details :

Key	Value
Comprehension	MCQ

चित्र पर आधारित सही विकल्प का चयन कीजिए :



- (1) इसका अक्ष एच.पी. के लम्बवत् है।
- (2) इसका अक्ष वी.पी. के लम्बवत् है।
- (3) इसका अक्ष एच.पी. तथा वी.पी. दोनों के समानान्तर है।
- (4) इसका अक्ष एच.पी. पर झुका हुआ है।

Options :

212807127481. 1

212807127482. 2

212807127483. 3

212807127484. 4

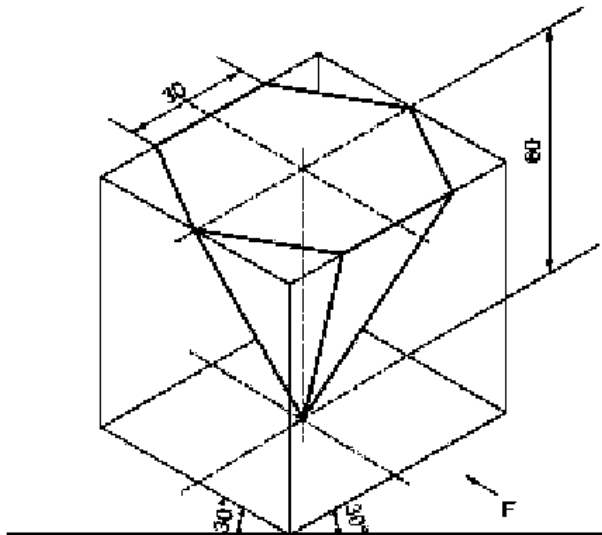
Question Number : 492 Question Id : 21280731872 Question Type : MCQ Option Shuffling : No Is Question Mandatory : No Calculator : None
Response Time : N.A Think Time : N.A Minimum Instruction Time : 0

Correct Marks : 5 Wrong Marks : 1

Question Key Details :

Key	Value
Comprehension	MCQ

Choose the **Correct** statement for the given figure :



- (1) Two of its base edges are perpendicular to V.P.
- (2) All of its base edges are parallel to V.P.
- (3) Two of its base edges parallel to V.P.
- (4) Its One base edge is parallel to V.P. and one base edge is perpendicular to V.P.

Options :

212807127485. 1

212807127486. 2

212807127487. 3

212807127488. 4

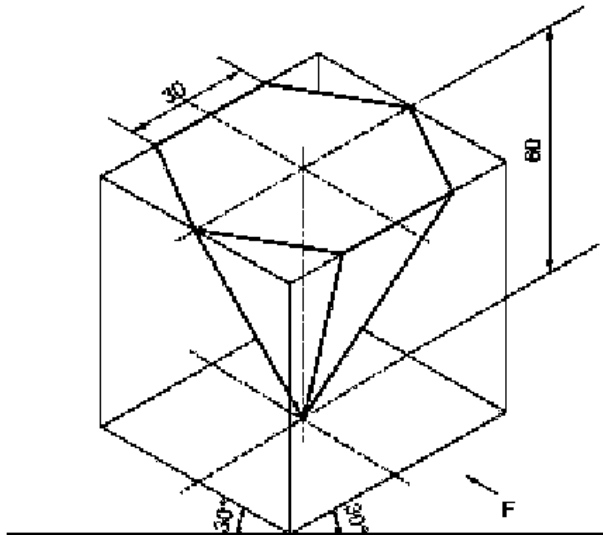
Question Number : 492 Question Id : 21280731872 Question Type : MCQ Option Shuffling : No Is Question Mandatory : No Calculator : None
Response Time : N.A Think Time : N.A Minimum Instruction Time : 0

Correct Marks : 5 Wrong Marks : 1

Question Key Details :

Key	Value
Comprehension	MCQ

चित्र पर आधारित सही विकल्प का चयन कीजिए :



- (1) इसके आधार की दो भुजायें वी.पी. के लम्बवत् हैं।
- (2) इसके आधार की सभी भुजायें वी.पी. के समानान्तर है।
- (3) इसके आधार की दो भुजायें वी.पी. के समानान्तर हैं।
- (4) इसके आधार की एक भुजा वी.पी. के समानान्तर है, तथा आधार की एक भुजा वी.पी. के लम्बवत् है।

Options :

212807127485. 1

212807127486. 2

212807127487. 3

212807127488. 4

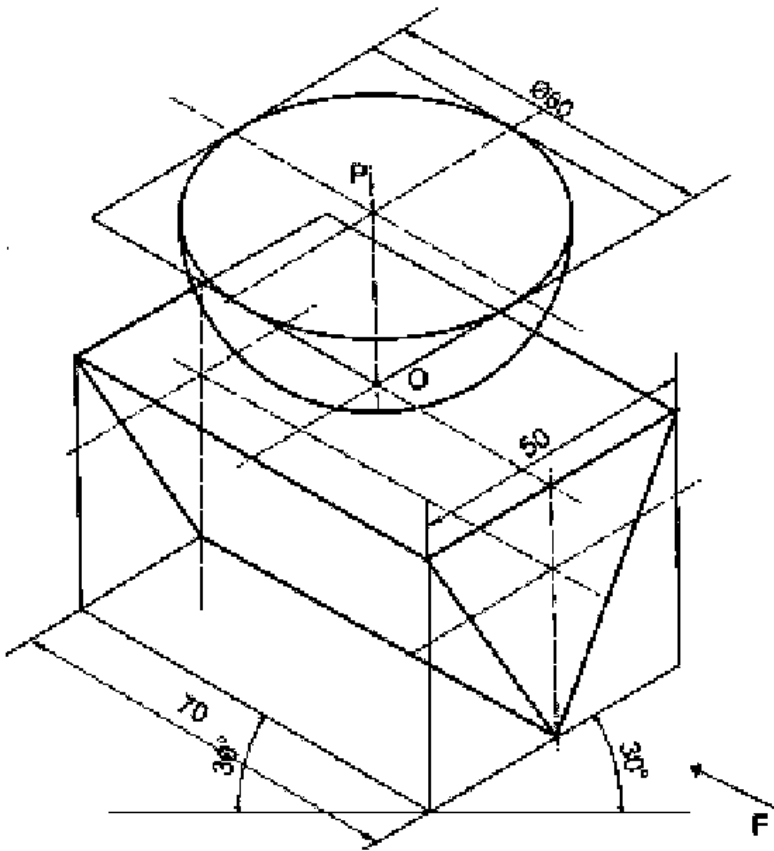
Question Number : 493 Question Id : 21280731873 Question Type : MCQ Option Shuffling : No Is Question Mandatory : No Calculator : None
Response Time : N.A Think Time : N.A Minimum Instruction Time : 0

Correct Marks : 5 Wrong Marks : 1

Question Key Details :

Key	Value
Comprehension	MCQ

Choose the **incorrect** statement for the given figure :



- (1) Hemisphere is placed on the top rectangular face of an equilateral triangular prism.
- (2) Two triangular faces are parallel to the V.P.
- (3) Triangular prism is resting on one of its long edges.
- (4) Hemisphere is placed on its curved surface on H.P.

Options :

212807127489. 1
 212807127490. 2
 212807127491. 3
 212807127492. 4

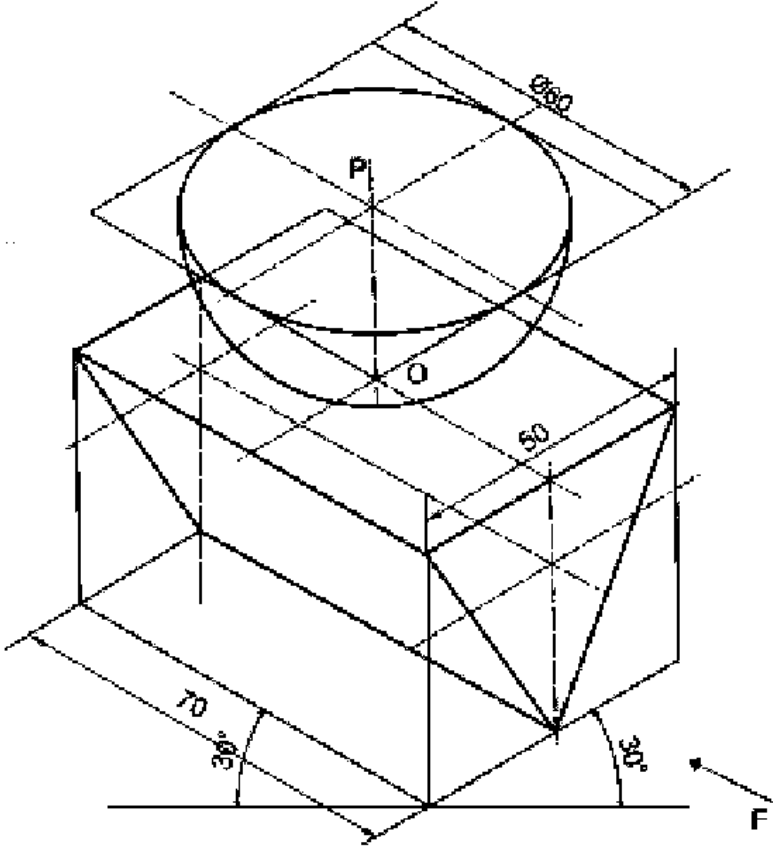
Question Number : 493 Question Id : 21280731873 Question Type : MCQ Option Shuffling : No Is Question Mandatory : No Calculator : None
 Response Time : N.A Think Time : N.A Minimum Instruction Time : 0

Correct Marks : 5 Wrong Marks : 1

Question Key Details :

Key	Value
Comprehension	MCQ

चित्र पर आधारित गलत विकल्प का चयन कीजिए :



- (1) अर्धगोला समबाहु त्रिभुजाकार प्रिज्म के ऊपरी आयताकार फलक पर रखा है।
- (2) दो त्रिभुजाकार फलक वी.पी. के समानान्तर है।
- (3) त्रिभुजाकार प्रिज्म अपनी एक लम्बे किनारे पर रखा है।
- (4) अर्धगोला अपने वक्र पृष्ठ पर एच.पी. पर रखा है।

Options :

212807127489. 1
212807127490. 2
212807127491. 3
212807127492. 4

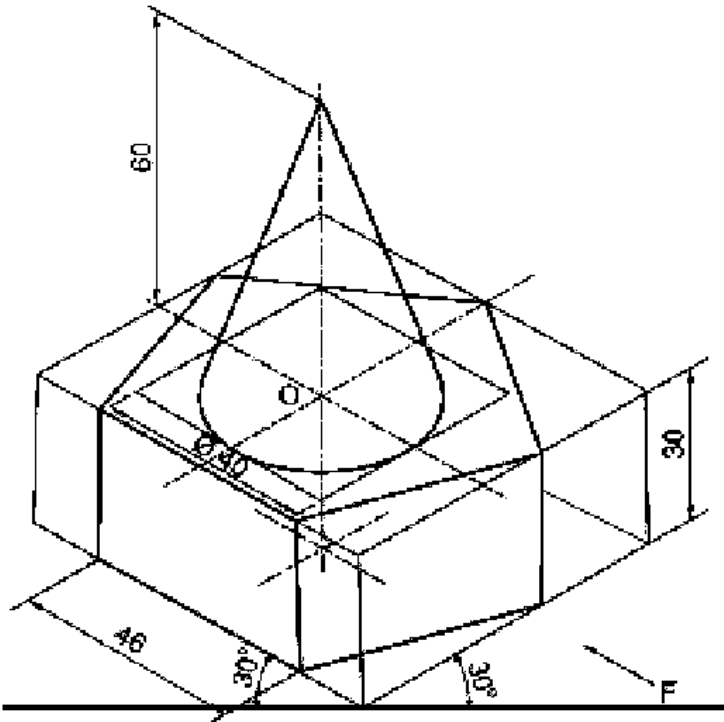
Question Number : 494 Question Id : 21280731874 Question Type : MCQ Option Shuffling : No Is Question Mandatory : No Calculator : None Response Time : N.A Think Time : N.A Minimum Instruction Time : 0

Correct Marks : 5 Wrong Marks : 1

Question Key Details :

Key	Value
Comprehension	MCQ

Choose the **Correct** statement for the given figure :



- (1) Common axis of both solids is vertical.
- (2) Common axis of both solids is horizontal.
- (3) Axis of cone is perpendicular to H.P. and axis of pentagonal slab is parallel to H.P.
- (4) Axis of cone is perpendicular to V.P. and axis of pentagonal slab is parallel to V.P.

Options :

212807127493. 1

212807127494. 2

212807127495. 3

212807127496. 4

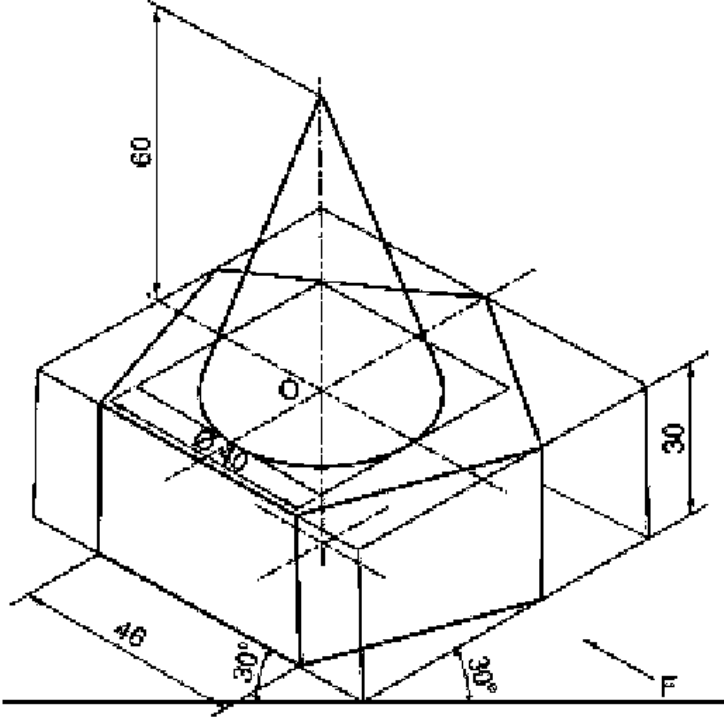
Question Number : 494 Question Id : 21280731874 Question Type : MCQ Option Shuffling : No Is Question Mandatory : No Calculator : None Response Time : N.A Think Time : N.A Minimum Instruction Time : 0

Correct Marks : 5 Wrong Marks : 1

Question Key Details :

Key	Value
Comprehension	MCQ

चित्र पर आधारित सही विकल्प का चयन कीजिए :



- (1) दोनों ठोसों का सह-अक्ष ऊर्ध्वाकार है।
- (2) दोनों ठोसों का सह-अक्ष क्षैतिज है।
- (3) शंकु का अक्ष एच.पी. पर लम्बवत् और पंचभुजाकार स्लैब का अक्ष एच.पी. के समानांतर है।
- (4) शंकु का अक्ष वी.पी. पर लम्बवत् और पंचभुजाकार स्लैब का अक्ष वी.पी. के समानांतर है।

Options :

212807127493. 1
212807127494. 2
212807127495. 3
212807127496. 4

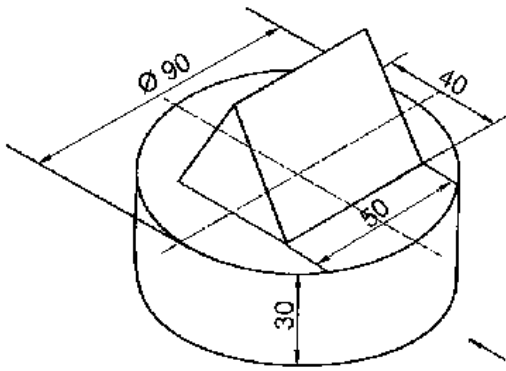
Question Number : 495 Question Id : 21280731875 Question Type : MCQ Option Shuffling : No Is Question Mandatory : No Calculator : None Response Time : N.A Think Time : N.A Minimum Instruction Time : 0

Correct Marks : 5 Wrong Marks : 1

Question Key Details :

Key	Value
Comprehension	MCQ

Number of triangles in given figure :



- (1) Six
- (2) One
- (3) Three
- (4) Two

Options :

212807127497. 1
 212807127498. 2
 212807127499. 3
 212807127500. 4

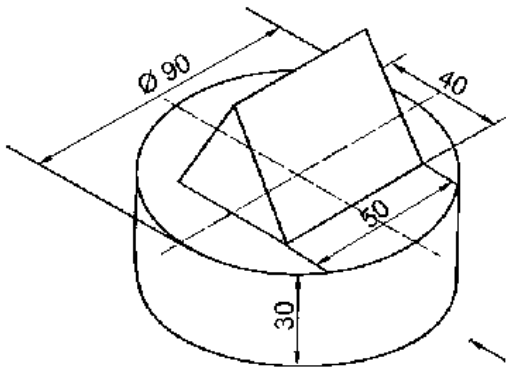
Question Number : 495 Question Id : 21280731875 Question Type : MCQ Option Shuffling : No Is Question Mandatory : No Calculator : None
 Response Time : N.A Think Time : N.A Minimum Instruction Time : 0

Correct Marks : 5 Wrong Marks : 1

Question Key Details :

Key	Value
Comprehension	MCQ

दिए गए चित्र में त्रिभुजों की संख्या _____ है।



- (1) छः
- (2) एक
- (3) तीन
- (4) दो

Options :

212807127497. 1
 212807127498. 2
 212807127499. 3
 212807127500. 4

Question Number : 496 Question Id : 21280731876 Question Type : MCQ Option Shuffling : No Is Question Mandatory : No Calculator : None
Response Time : N.A Think Time : N.A Minimum Instruction Time : 0

Correct Marks : 5 Wrong Marks : 1

Question Key Details :

Key	Value
Comprehension	MCQ

_____ is not a temporary fastener.

- (1) Bolt
- (2) Nut
- (3) Rivet
- (4) Stud

Options :

212807127501. 1
212807127502. 2
212807127503. 3
212807127504. 4

Question Number : 496 Question Id : 21280731876 Question Type : MCQ Option Shuffling : No Is Question Mandatory : No Calculator : None
Response Time : N.A Think Time : N.A Minimum Instruction Time : 0

Correct Marks : 5 Wrong Marks : 1

Question Key Details :

Key	Value
Comprehension	MCQ

_____ एक अस्थायी बंधक नहीं है।

- (1) बोल्ट
- (2) नट
- (3) रिबेट
- (4) स्टैंड

Options :

212807127501. 1
212807127502. 2
212807127503. 3
212807127504. 4

Question Number : 497 Question Id : 21280731877 Question Type : MCQ Option Shuffling : No Is Question Mandatory : No Calculator : None
Response Time : N.A Think Time : N.A Minimum Instruction Time : 0

Correct Marks : 5 Wrong Marks : 1

Question Key Details :

Key	Value
Comprehension	MCQ

The radius taken to draw crest/root in knuckle thread is _____, where 'P' is the pitch of thread.

- (1) $P/2$
- (2) $P/3$
- (3) $P/8$
- (4) $P/4$

Options :

212807127505. 1
212807127506. 2
212807127507. 3
212807127508. 4

Question Number : 497 Question Id : 21280731877 Question Type : MCQ Option Shuffling : No Is Question Mandatory : No Calculator : None
Response Time : N.A Think Time : N.A Minimum Instruction Time : 0

Correct Marks : 5 Wrong Marks : 1

Question Key Details :

Key	Value
Comprehension	MCQ

नक्कल चूड़ी में क्रैस्ट/रूट बनाने के लिए त्रिज्या _____ ली जाती है, जहाँ 'P' चूड़ी की पिच है।

- (1) P/2
- (2) P/3
- (3) P/8
- (4) P/4

Options :

212807127505. 1
212807127506. 2
212807127507. 3
212807127508. 4

Question Number : 498 Question Id : 21280731878 Question Type : MCQ Option Shuffling : No Is Question Mandatory : No Calculator : None
Response Time : N.A Think Time : N.A Minimum Instruction Time : 0

Correct Marks : 5 Wrong Marks : 1

Question Key Details :

Key	Value
Comprehension	MCQ

Both crest and root are round in _____.

- (1) B.S.W. Thread
- (2) Metric External Thread
- (3) Metric Internal Thread
- (4) Square Thread

Options :

212807127509. 1
212807127510. 2
212807127511. 3
212807127512. 4

Question Number : 498 Question Id : 21280731878 Question Type : MCQ Option Shuffling : No Is Question Mandatory : No Calculator : None
Response Time : N.A Think Time : N.A Minimum Instruction Time : 0

Correct Marks : 5 Wrong Marks : 1

Question Key Details :

Key	Value
Comprehension	MCQ

_____ में क्रैस्ट तथा रूट दोनों गोल हैं।

- (1) बी.एस.डब्ल्यू. चूड़ी
- (2) बाह्य मीट्रिक चूड़ी
- (3) अन्तः मीट्रिक चूड़ी
- (4) वर्गाकार चूड़ी

Options :

212807127509. 1
212807127510. 2
212807127511. 3
212807127512. 4

Question Number : 499 Question Id : 21280731879 Question Type : MCQ Option Shuffling : No Is Question Mandatory : No Calculator : None
Response Time : N.A Think Time : N.A Minimum Instruction Time : 0

Correct Marks : 5 Wrong Marks : 1

Question Key Details :

Key	Value
Comprehension	MCQ

Chamfering of head of a bolt is done to _____.

- (1) add extra material
- (2) remove sharp corners to ensure safety of users
- (3) cut the manufacturing cost
- (4) make its surface rough

Options :

212807127513. 1

212807127514. 2

212807127515. 3

212807127516. 4

Question Number : 499 Question Id : 21280731879 Question Type : MCQ Option Shuffling : No Is Question Mandatory : No Calculator : None
Response Time : N.A Think Time : N.A Minimum Instruction Time : 0

Correct Marks : 5 Wrong Marks : 1

Question Key Details :

Key	Value
Comprehension	MCQ

बोल्ड के हैड की चैम्फरिंग _____ की जाती है।

- (1) अतिरिक्त पदार्थ जोड़ने के लिये
- (2) उपयोगकर्ता की सुरक्षा के लिये तीखे किनारों को हटाने के लिये
- (3) लागत को कम करने के लिये
- (4) इसकी सतह को खुरदरा बनाने के लिये

Options :

212807127513. 1

212807127514. 2

212807127515. 3

212807127516. 4

Question Number : 500 Question Id : 21280731880 Question Type : MCQ Option Shuffling : No Is Question Mandatory : No Calculator : None
Response Time : N.A Think Time : N.A Minimum Instruction Time : 0

Correct Marks : 5 Wrong Marks : 1

Question Key Details :

Key	Value
Comprehension	MCQ

The size of chamfer circle is taken as _____ in square/hexagonal headed bolt and nut with nominal diameter 'd'.

- (1) $1.8d$ or $1.8d + 8$
- (2) $2d$ or $2d + 6$
- (3) $1.5d$ or $1.5d + 3$
- (4) $0.8d$ or $0.8d + 8$

Options :

212807127517. 1

212807127518. 2

212807127519. 3

Question Number : 500 Question Id : 21280731880 Question Type : MCQ Option Shuffling : No Is Question Mandatory : No Calculator : None
Response Time : N.A Think Time : N.A Minimum Instruction Time : 0

Correct Marks : 5 Wrong Marks : 1

Question Key Details :

Key	Value
Comprehension	MCQ

वर्गाकार/षट्भुजीय बोल्ट के हैड और नॉट के चैम्फर वृत्त का आयाम _____ लिया जाता है, जिसका नॉमिनल व्यास 'd' है।

- (1) $1.8d$ या $1.8d + 8$
- (2) $2d$ or $2d + 6$
- (3) $1.5d$ या $1.5d+3$
- (4) $0.8d$ या $0.8d + 8$

Options :

212807127517. 1
212807127518. 2
212807127519. 3
212807127520. 4

Question Number : 501 Question Id : 21280731881 Question Type : MCQ Option Shuffling : No Is Question Mandatory : No Calculator : None
Response Time : N.A Think Time : N.A Minimum Instruction Time : 0

Correct Marks : 5 Wrong Marks : 1

Question Key Details :

Key	Value
Comprehension	MCQ

Choose the **incorrect** statement in case of plain washer :

- (1) It is placed below nut to give flat smooth bearing surface.
- (2) It is used where surface of machine part is rough.
- (3) It prevents nut from cutting in to the metal.
- (4) It usually loosens the joint of bolt and nut.

Options :

212807127521. 1
212807127522. 2
212807127523. 3
212807127524. 4

Question Number : 501 Question Id : 21280731881 Question Type : MCQ Option Shuffling : No Is Question Mandatory : No Calculator : None
Response Time : N.A Think Time : N.A Minimum Instruction Time : 0

Correct Marks : 5 Wrong Marks : 1

Question Key Details :

Key	Value
Comprehension	MCQ

प्लेन वॉशर के लिए गलत कथन का चुनाव करें :

- (1) यह समतल चिकनी सतह देने के लिए नॉट के नीचे रखा जाता है।
- (2) यह वहाँ इस्तेमाल किया जाता है जहाँ मशीन की सतह खुरदरी हो।
- (3) यह नॉट को धातु को/में काटने से रोकता है।
- (4) यह आमतौर पर बोल्ट और नॉट के जोड़ को ढीला करने के लिए इस्तेमाल किया जाता है।

Options :

212807127521. 1

212807127522. 2
212807127523. 3
212807127524. 4

Question Number : 502 Question Id : 21280731882 Question Type : MCQ Option Shuffling : No Is Question Mandatory : No Calculator : None
Response Time : N.A Think Time : N.A Minimum Instruction Time : 0

Correct Marks : 5 Wrong Marks : 1

Question Key Details :

Key	Value
Comprehension	MCQ

In conventional representation of external V-Thread, root is represented by _____ in its front view.

- (1) Thin Line
- (2) Thick Line
- (3) Dotted Line
- (4) Chain Line

Options :

212807127525. 1
212807127526. 2
212807127527. 3
212807127528. 4

Question Number : 502 Question Id : 21280731882 Question Type : MCQ Option Shuffling : No Is Question Mandatory : No Calculator : None
Response Time : N.A Think Time : N.A Minimum Instruction Time : 0

Correct Marks : 5 Wrong Marks : 1

Question Key Details :

Key	Value
Comprehension	MCQ

बाह्य V-चूड़ी के परम्परागत चित्रण में, रूट को इसके सम्मुख दृश्य में _____ से दिखाया जाता है।

- (1) पतली रेखा
- (2) मोटी रेखा
- (3) बिन्दुकित रेखा
- (4) चैन रेखा

Options :

212807127525. 1
212807127526. 2
212807127527. 3
212807127528. 4

Question Number : 503 Question Id : 21280731883 Question Type : MCQ Option Shuffling : No Is Question Mandatory : No Calculator : None
Response Time : N.A Think Time : N.A Minimum Instruction Time : 0

Correct Marks : 5 Wrong Marks : 1

Question Key Details :

Key	Value
Comprehension	MCQ

In the top view of a vertical stud, two complete and one broken circle is shown in _____.

- (1) Plain stud
- (2) Stud with square neck
- (3) Collar stud
- (4) Hexagonal headed bolt

Options :

212807127529. 1
212807127530. 2
212807127531. 3
212807127532. 4

Question Number : 503 Question Id : 21280731883 Question Type : MCQ Option Shuffling : No Is Question Mandatory : No Calculator : None
Response Time : N.A Think Time : N.A Minimum Instruction Time : 0

Correct Marks : 5 Wrong Marks : 1

Question Key Details :

Key	Value
Comprehension	MCQ

एक ऊर्ध्वाकार स्टैंड के ऊपरी दृश्य में, दो पूरे तथा एक टूटा हुआ वृत्त, _____ में दिखाया जाता है।

- (1) प्लेन स्टैंड
- (2) वर्गाकार नेक वाला स्टैंड
- (3) कॉलर स्टैंड
- (4) षट्भुजीय हैडेड बोल्ट

Options :

212807127529. 1
212807127530. 2
212807127531. 3
212807127532. 4

Question Number : 504 Question Id : 21280731884 Question Type : MCQ Option Shuffling : No Is Question Mandatory : No Calculator : None
Response Time : N.A Think Time : N.A Minimum Instruction Time : 0

Correct Marks : 5 Wrong Marks : 1

Question Key Details :

Key	Value
Comprehension	MCQ

It is a cylindrical piece of metal having threads at both ends and non threaded portion of square cross-section at the centre.

- (1) Turnbuckle
- (2) Stud with square Neck
- (3) Sleeve
- (4) Square headed bolt

Options :

212807127533. 1
212807127534. 2
212807127535. 3
212807127536. 4

Question Number : 504 Question Id : 21280731884 Question Type : MCQ Option Shuffling : No Is Question Mandatory : No Calculator : None
Response Time : N.A Think Time : N.A Minimum Instruction Time : 0

Correct Marks : 5 Wrong Marks : 1

Question Key Details :

Key	Value
Comprehension	MCQ

यह एक बेलनाकार धातु का टुकड़ा है, जिसके दोनों सिरों पर चूड़ी है और मध्य में वर्गाकार अनुप्रस्थ काट वाला भाग है।

- (1) टर्नबकल
- (2) वर्गाकार नेक वाला स्टैंड
- (3) स्लीव
- (4) वर्गाकार हैडेड बोल्ट

Options :

212807127533. 1
212807127534. 2
212807127535. 3
212807127536. 4

Question Number : 505 Question Id : 21280731885 Question Type : MCQ Option Shuffling : No Is Question Mandatory : No Calculator : None
Response Time : N.A Think Time : N.A Minimum Instruction Time : 0

Correct Marks : 5 Wrong Marks : 1

Question Key Details :

Key	Value
Comprehension	MCQ

The head thickness of a Snap head rivet is _____. (Where d is rivet diameter)

- (1) d
- (2) 1.5 d
- (3) 0.7 d
- (4) 0.9 d

Options :

212807127537. 1
212807127538. 2
212807127539. 3
212807127540. 4

Question Number : 505 Question Id : 21280731885 Question Type : MCQ Option Shuffling : No Is Question Mandatory : No Calculator : None
Response Time : N.A Think Time : N.A Minimum Instruction Time : 0

Correct Marks : 5 Wrong Marks : 1

Question Key Details :

Key	Value
Comprehension	MCQ

एक स्नेप हैड रिबेट के हैड की मोटाई _____ है। (जहाँ रिबेट का व्यास 'd' है)

- (1) d
- (2) 1.5 d
- (3) 0.7 d
- (4) 0.9 d

Options :

212807127537. 1
212807127538. 2
212807127539. 3
212807127540. 4

Question Number : 506 Question Id : 21280731886 Question Type : MCQ Option Shuffling : No Is Question Mandatory : No Calculator : None
Response Time : N.A Think Time : N.A Minimum Instruction Time : 0

Correct Marks : 5 Wrong Marks : 1

Question Key Details :

Key	Value
Comprehension	MCQ

Two continuous thick circles are shown in the top view of vertical _____.

- (1) Pan Head Rivet
- (2) Snap Head Rivet
- (3) 60° CSK Head
- (4) Flat Head Rivet

Options :

212807127541. 1
212807127542. 2
212807127543. 3
212807127544. 4

Question Number : 506 Question Id : 21280731886 Question Type : MCQ Option Shuffling : No Is Question Mandatory : No Calculator : None
Response Time : N.A Think Time : N.A Minimum Instruction Time : 0

Correct Marks : 5 Wrong Marks : 1

Question Key Details :

Key	Value
Comprehension	MCQ

एक ऊर्ध्वाकार _____ के ऊपरी दृश्य में दो सतत मोटे वृत्त दिखाये जाते हैं।

- (1) पैन हैड रिबेट
- (2) स्नैप हैड रिबेट
- (3) 60° सी.एस.के. हैड रिबेट
- (4) फ्लैट हैड रिबेट

Options :

212807127541. 1
212807127542. 2
212807127543. 3
212807127544. 4

Question Number : 507 Question Id : 21280731887 Question Type : MCQ Option Shuffling : No Is Question Mandatory : No Calculator : None
Response Time : N.A Think Time : N.A Minimum Instruction Time : 0

Correct Marks : 5 Wrong Marks : 1

Question Key Details :

Key	Value
Comprehension	MCQ

The shape of a cotter is _____.

- (1) Circular
- (2) Wedge shaped
- (3) Cylindrical
- (4) Oval shaped

Options :

212807127545. 1
212807127546. 2
212807127547. 3
212807127548. 4

Question Number : 507 Question Id : 21280731887 Question Type : MCQ Option Shuffling : No Is Question Mandatory : No Calculator : None
Response Time : N.A Think Time : N.A Minimum Instruction Time : 0

Correct Marks : 5 Wrong Marks : 1

Question Key Details :

Key	Value
Comprehension	MCQ

कॉटर की आकृति _____ है।

- (1) वृत्ताकार
- (2) फानाकार
- (3) बेलनाकार
- (4) अंडाकार

Options :

212807127545. 1
212807127546. 2
212807127547. 3
212807127548. 4

Question Number : 508 Question Id : 21280731888 Question Type : MCQ Option Shuffling : No Is Question Mandatory : No Calculator : None
Response Time : N.A Think Time : N.A Minimum Instruction Time : 0

Correct Marks : 5 Wrong Marks : 1

Question Key Details :

Key	Value
Comprehension	MCQ

Open bearing is useful for shafts rotating at _____.

- (1) Super fast speed
- (2) High speed
- (3) Slow speed
- (4) Medium speed

Options :

212807127549. 1
212807127550. 2
212807127551. 3
212807127552. 4

Question Number : 508 Question Id : 21280731888 Question Type : MCQ Option Shuffling : No Is Question Mandatory : No Calculator : None
Response Time : N.A Think Time : N.A Minimum Instruction Time : 0

Correct Marks : 5 Wrong Marks : 1

Question Key Details :

Key	Value
Comprehension	MCQ

ओपन बियरिंग _____ पर घुमती हुई शाफ्ट के लिए उपयोगी है।

- (1) अत्यधिक तेज गति
- (2) तेज गति
- (3) धीमी गति
- (4) मध्यम गति

Options :

212807127549. 1
212807127550. 2
212807127551. 3
212807127552. 4

Question Number : 509 Question Id : 21280731889 Question Type : MCQ Option Shuffling : No Is Question Mandatory : No Calculator : None
Response Time : N.A Think Time : N.A Minimum Instruction Time : 0

Correct Marks : 5 Wrong Marks : 1

Question Key Details :

Key	Value
-----	-------

Comprehension	MCQ
---------------	-----

Shape of oil hole in Bush Bearing is _____.

- (1) Hexagonal
- (2) Pentagonal
- (3) Triangular
- (4) Counter Sunk

Options :

212807127553. 1
212807127554. 2
212807127555. 3
212807127556. 4

Question Number : 509 Question Id : 21280731889 Question Type : MCQ Option Shuffling : No Is Question Mandatory : No Calculator : None
Response Time : N.A Think Time : N.A Minimum Instruction Time : 0

Correct Marks : 5 Wrong Marks : 1

Question Key Details :

Key	Value
Comprehension	MCQ

बुश बियरिंग में तेल छिद्र की आकृति _____ है।

- (1) षट्भुजाकार
- (2) पँचभुजाकार
- (3) त्रिभुजाकार
- (4) काउंटर-संक

Options :

212807127553. 1
212807127554. 2
212807127555. 3
212807127556. 4

Question Number : 510 Question Id : 21280731890 Question Type : MCQ Option Shuffling : No Is Question Mandatory : No Calculator : None
Response Time : N.A Think Time : N.A Minimum Instruction Time : 0

Correct Marks : 5 Wrong Marks : 1

Question Key Details :

Key	Value
Comprehension	MCQ

Choose the **incorrect** statement for Sleeve and cotter joint :

- (1) This joint is used to join two rods of square or rectangular in cross-section.
- (2) There are five parts used in this joint.
- (3) Two cotters are used in this joint.
- (4) A hollow sleeve has two rectangular holes for inserting cotters.

Options :

212807127557. 1
212807127558. 2
212807127559. 3
212807127560. 4

Question Number : 510 Question Id : 21280731890 Question Type : MCQ Option Shuffling : No Is Question Mandatory : No Calculator : None
Response Time : N.A Think Time : N.A Minimum Instruction Time : 0

Correct Marks : 5 Wrong Marks : 1

Question Key Details :

Key	Value
-----	-------

स्लीव और कॉटर जोड़ के लिए गलत विकल्प का चुनाव करें :

- (1) यह जोड़ दो वर्गाकार या आयताकार अनुप्रस्थ काट की छड़ों को जोड़ने में इस्तेमाल किया जाता है।
- (2) इस जोड़ में कुल पाँच पूजों का इस्तेमाल किया जाता है।
- (3) इस जोड़ में दो कॉटर का इस्तेमाल किया जाता है।
- (4) एक खोखली स्लीव में कॉटर को डालने के लिए दो आयताकार छिद्र हैं।

Options :

212807127557. 1
212807127558. 2
212807127559. 3
212807127560. 4

Question Number : 511 Question Id : 21280731891 Question Type : MCQ Option Shuffling : No Is Question Mandatory : No Calculator : None Response Time : N.A Think Time : N.A Minimum Instruction Time : 0

Correct Marks : 5 Wrong Marks : 1

Question Key Details :

Key	Value
Comprehension	MCQ

In Gib and cotter joint, if the thickness of cotter is 8 mm, then thickness of gib will be _____.

- (1) 10 mm
- (2) 06 mm
- (3) 15 mm
- (4) 08 mm

Options :

212807127561. 1
212807127562. 2
212807127563. 3
212807127564. 4

Question Number : 511 Question Id : 21280731891 Question Type : MCQ Option Shuffling : No Is Question Mandatory : No Calculator : None Response Time : N.A Think Time : N.A Minimum Instruction Time : 0

Correct Marks : 5 Wrong Marks : 1

Question Key Details :

Key	Value
Comprehension	MCQ

गिब और कॉटर जोड़ में, यदि कॉटर की मोटाई 8 मि.मी. है तो गिब की मोटाई _____ है।

- (1) 10 मि.मी.
- (2) 06 मि.मी.
- (3) 15 मि.मी.
- (4) 08 मि.मी.

Options :

212807127561. 1
212807127562. 2
212807127563. 3
212807127564. 4

Question Number : 512 Question Id : 21280731892 Question Type : MCQ Option Shuffling : No Is Question Mandatory : No Calculator : None Response Time : N.A Think Time : N.A Minimum Instruction Time : 0

Correct Marks : 5 Wrong Marks : 1

Question Key Details :

Key	Value
Comprehension	MCQ

Turnbuckle joint is not used in _____.

- (1) Electric poles
- (2) Boxing rings
- (3) Pipe joint
- (4) A sail boat's standing

Options :

212807127565. 1
212807127566. 2
212807127567. 3
212807127568. 4

Question Number : 512 Question Id : 21280731892 Question Type : MCQ Option Shuffling : No Is Question Mandatory : No Calculator : None
Response Time : N.A Think Time : N.A Minimum Instruction Time : 0

Correct Marks : 5 Wrong Marks : 1

Question Key Details :

Key	Value
Comprehension	MCQ

टर्नबकल जोड़ _____ में इस्तेमाल नहीं किया जाता है।

- (1) बिजली के खम्भों
- (2) बॉक्सिंग रिंग
- (3) पाइप जोड़
- (4) एक पाल-नाव के स्टैंड

Options :

212807127565. 1
212807127566. 2
212807127567. 3
212807127568. 4

Question Number : 513 Question Id : 21280731893 Question Type : MCQ Option Shuffling : No Is Question Mandatory : No Calculator : None
Response Time : N.A Think Time : N.A Minimum Instruction Time : 0

Correct Marks : 5 Wrong Marks : 1

Question Key Details :

Key	Value
Comprehension	MCQ

In flange pipe joint, both flanges with gasket in between them are connected together by _____.

- (1) Welding
- (2) Riveting
- (3) Stud
- (4) Nut and Bolt

Options :

212807127569. 1
212807127570. 2
212807127571. 3
212807127572. 4

Question Number : 513 Question Id : 21280731893 Question Type : MCQ Option Shuffling : No Is Question Mandatory : No Calculator : None
Response Time : N.A Think Time : N.A Minimum Instruction Time : 0

Correct Marks : 5 Wrong Marks : 1

Question Key Details :

Key	Value
-----	-------

फलैज पाइप जोड़ में, दोनों फलैजो के बीच गैसकेट को आपस में _____ के द्वारा जोड़ा जाता है।

- (1) वैल्विंग
- (2) रिबेटिंग
- (3) स्टैंड
- (4) नॉट और बोल्ट

Options :

212807127569. 1
 212807127570. 2
 212807127571. 3
 212807127572. 4

Question Number : 514 Question Id : 21280731894 Question Type : MCQ Option Shuffling : No Is Question Mandatory : No Calculator : None Response Time : N.A Think Time : N.A Minimum Instruction Time : 0

Correct Marks : 5 Wrong Marks : 1

Question Key Details :

Key	Value
Comprehension	MCQ

Match List - I with List - II.

List - I

(Solids)

- (A) Prism
- (B) Pyramid
- (C) Cone
- (D) Cylinder

List - II

(Their Features)

- (I) Base is a circle.
- (II) Two similar ends and rectangular faces.
- (III) Two circular faces and one curved surface.
- (IV) One base and slant triangular faces.

Choose the correct answer from the options given below :

- (1) (A)-(I), (B)-(II), (C)-(III), (D)-(IV)
- (2) (A)-(II), (B)-(IV), (C)-(I), (D)-(III)
- (3) (A)-(IV), (B)-(III), (C)-(II), (D)-(I)
- (4) (A)-(III), (B)-(I), (C)-(II), (D)-(IV)

Options :

212807127573. 1
 212807127574. 2
 212807127575. 3
 212807127576. 4

Question Number : 514 Question Id : 21280731894 Question Type : MCQ Option Shuffling : No Is Question Mandatory : No Calculator : None Response Time : N.A Think Time : N.A Minimum Instruction Time : 0

Correct Marks : 5 Wrong Marks : 1

Question Key Details :

Key	Value
Comprehension	MCQ

सूची - I का सूची - II से मिलान करें।

सूची - I

(ठोस)

- (A) प्रिज्म
- (B) पिरैमिड
- (C) शंकु
- (D) बेलन

सूची - II

(अभिलक्षण)

- (I) आधार एक वृत्त है।
- (II) दो एक जैसे किनारे तथा आयताकार फलक
- (III) दो वृत्ताकार फलक तथा एक वक्र पृष्ठ
- (IV) एक आधार तथा तिरछे त्रिभुजाकार फलक

नीचे दिये गये विकल्पों में से सही उत्तर चुनें।

- (1) (A)-(I), (B)-(II), (C)-(III), (D)-(IV)
- (2) (A)-(II), (B)-(IV), (C)-(I), (D)-(III)
- (3) (A)-(IV), (B)-(III), (C)-(II), (D)-(I)
- (4) (A)-(III), (B)-(I), (C)-(II), (D)-(IV)

Options :

- 212807127573. 1
- 212807127574. 2
- 212807127575. 3
- 212807127576. 4

Question Number : 515 Question Id : 21280731895 Question Type : MCQ Option Shuffling : No Is Question Mandatory : No Calculator : None
Response Time : N.A Think Time : N.A Minimum Instruction Time : 0

Correct Marks : 5 Wrong Marks : 1

Question Key Details :

Key	Value
Comprehension	MCQ

Match List - I with List - II. (for Isometric scale)

List - I

- (A) Angle of Line indicating Isometric lengths with base line.
- (B) Angle of line showing true lengths with base line.
- (C) Angle between lines showing isometric lengths and true lengths.
- (D) Angle of projectors with base line.

List - II

- (I) 15°
- (II) 30°
- (III) 45°
- (IV) 90°

Choose the correct answer from the options given below :

- (1) (A)-(II), (B)-(I), (C)-(IV), (D)-(III)
- (2) (A)-(II), (B)-(III), (C)-(I), (D)-(IV)
- (3) (A)-(I), (B)-(II), (C)-(III), (D)-(IV)
- (4) (A)-(IV), (B)-(III), (C)-(I), (D)-(II)

Options :

- 212807127577. 1
- 212807127578. 2
- 212807127579. 3
- 212807127580. 4

Question Number : 515 Question Id : 21280731895 Question Type : MCQ Option Shuffling : No Is Question Mandatory : No Calculator : None Response Time : N.A Think Time : N.A Minimum Instruction Time : 0

Correct Marks : 5 Wrong Marks : 1

Question Key Details :

Key	Value
Comprehension	MCQ

सूची - I का सूची - II से मिलान करें। (समपरिमाण प्रक्षेपण के लिए)

सूची - I

सूची - II

- | | |
|---|-----------|
| (A) आधार के साथ समपरिमाण लम्बाई वाली रेखा का कोण | (I) 15° |
| (B) आधार के साथ वास्तविक लम्बाई वाली रेखा का कोण | (II) 30° |
| (C) समपरिमाण लम्बाई और वास्तविक लम्बाई दिखाने वाली रेखाओं के बीच का कोण | (III) 45° |
| (D) आधार के साथ प्रक्षेपकों का कोण | (IV) 90° |

नीचे दिये गये विकल्पों में से सही उत्तर चुनें।

- (1) (A)-(II), (B)-(I), (C)-(IV), (D)-(III)
- (2) (A)-(II), (B)-(III), (C)-(I), (D)-(IV)
- (3) (A)-(I), (B)-(II), (C)-(III), (D)-(IV)
- (4) (A)-(IV), (B)-(III), (C)-(I), (D)-(II)

Options :

212807127577. 1

212807127578. 2

212807127579. 3

212807127580. 4

Question Number : 516 Question Id : 21280731896 Question Type : MCQ Option Shuffling : No Is Question Mandatory : No Calculator : None Response Time : N.A Think Time : N.A Minimum Instruction Time : 0

Correct Marks : 5 Wrong Marks : 1

Question Key Details :

Key	Value
Comprehension	MCQ

Match List - I with List - II.

List - I

List - II

- | | |
|--|--|
| (A) Pipes are used to carry. | (I) By means of nut and Bolt |
| (B) Faces of flanges are machined at right angles to the axis of pipe. | (II) For preventing leakage |
| (C) Gasket is used in between faces of two flanges. | (III) For perfect alignments |
| (D) Flanges with gasket in between are connected together. | (IV) water, oil, steam or gas etc. from one place to another place |

Choose the correct answer from the options given below :

- (1) (A)-(I), (B)-(II), (C)-(III), (D)-(IV)
- (2) (A)-(III), (B)-(II), (C)-(IV), (D)-(I)
- (3) (A)-(IV), (B)-(III), (C)-(II), (D)-(I)
- (4) (A)-(I), (B)-(IV), (C)-(III), (D)-(II)

Options :

212807127581. 1
212807127582. 2
212807127583. 3
212807127584. 4

Question Number : 516 Question Id : 21280731896 Question Type : MCQ Option Shuffling : No Is Question Mandatory : No Calculator : None
Response Time : N.A Think Time : N.A Minimum Instruction Time : 0

Correct Marks : 5 Wrong Marks : 1

Question Key Details :

Key	Value
Comprehension	MCQ

सूची - I का सूची - II से मिलान करें।

सूची - I

- (A) पाइप का इस्तेमाल लेकर जाने के लिये करते हैं
(B) फ्लैज के फलकों का पाईप के अक्ष से लम्बवत् मशीनीकरण किया जाता है
(C) गैस्केट का प्रयोग दोनों फ्लैजों के फलकों के बीच में होता है
(D) बीच में गैस्केट के साथ फ्लैजों को जोड़ा जाता है

सूची - II

- (I) नॉट तथा बोल्ट के साथ
(II) रिसाव को रोकने के लिये
(III) ठीक के लिए
(IV) पानी, तेल, गैस या भाप, अन्य को एक स्थान से दूसरे स्थान तक

नीचे दिये गये विकल्पों में से सही उत्तर चुनें।

- (1) (A)-(I), (B)-(II), (C)-(III), (D)-(IV)
(2) (A)-(III), (B)-(II), (C)-(IV), (D)-(I)
(3) (A)-(IV), (B)-(III), (C)-(II), (D)-(I)
(4) (A)-(I), (B)-(IV), (C)-(III), (D)-(II)

Options :

212807127581. 1
212807127582. 2
212807127583. 3
212807127584. 4

Question Number : 517 Question Id : 21280731897 Question Type : MCQ Option Shuffling : No Is Question Mandatory : No Calculator : None
Response Time : N.A Think Time : N.A Minimum Instruction Time : 0

Correct Marks : 5 Wrong Marks : 1

Question Key Details :

Key	Value
Comprehension	MCQ

Match List - I with List - II.

List - I (Assemblies)	List - II (Number of parts used)
(A) Open Bearing	(I) 5
(B) Sleeve and cotter joint	(II) 4
(C) Gib and cotter joint	(III) 3
(D) Turnbuckle	(IV) 2

Choose the correct answer from the options given below :

- (1) (A)-(I), (B)-(II), (C)-(III), (D)-(IV)
- (2) (A)-(IV), (B)-(I), (C)-(II), (D)-(III)
- (3) (A)-(II), (B)-(III), (C)-(IV), (D)-(I)
- (4) (A)-(III), (B)-(IV), (C)-(I), (D)-(II)

Options :

212807127585. 1
212807127586. 2
212807127587. 3
212807127588. 4

Question Number : 517 Question Id : 21280731897 Question Type : MCQ Option Shuffling : No Is Question Mandatory : No Calculator : None
Response Time : N.A Think Time : N.A Minimum Instruction Time : 0

Correct Marks : 5 Wrong Marks : 1

Question Key Details :

Key	Value
Comprehension	MCQ

सूची - I का सूची - II से मिलान करें।

सूची - I (असेम्बली)	सूची - II (प्रयोग किये गये भागों की संख्या)
(A) ओपेन बियरिंग	(I) 5
(B) स्लीव और कॉटर जोड़	(II) 4
(C) गिब और कॉटर जोड़	(III) 3
(D) टर्नबककल	(IV) 2

नीचे दिये गये विकल्पों में से सही उत्तर चुनें।

- (1) (A)-(I), (B)-(II), (C)-(III), (D)-(IV)
- (2) (A)-(IV), (B)-(I), (C)-(II), (D)-(III)
- (3) (A)-(II), (B)-(III), (C)-(IV), (D)-(I)
- (4) (A)-(III), (B)-(IV), (C)-(I), (D)-(II)

Options :

212807127585. 1
212807127586. 2
212807127587. 3
212807127588. 4

Question Number : 518 Question Id : 21280731898 Question Type : MCQ Option Shuffling : No Is Question Mandatory : No Calculator : None
Response Time : N.A Think Time : N.A Minimum Instruction Time : 0

Correct Marks : 5 Wrong Marks : 1

Question Key Details :

Key	Value
Comprehension	MCQ

Match List - I with List - II.

List - I

(Details of Collar stud)

- (A) Threaded length of nut end
 (B) Diameter of collar
 (C) Thickness of collar
 (D) Length of metal end

List - II

(Standard dimension)

(Where 'd' is nominal diameter of stud)

- (I) d
 (II) 0.4 d
 (III) 1.5 d
 (IV) 2 d + 6

Choose the correct answer from the options given below :

- (1) (A)-(IV), (B)-(III), (C)-(II), (D)-(I)
 (2) (A)-(I), (B)-(II), (C)-(III), (D)-(IV)
 (3) (A)-(II), (B)-(IV), (C)-(I), (D)-(III)
 (4) (A)-(I), (B)-(III), (C)-(II), (D)-(IV)

Options :

212807127589. 1
 212807127590. 2
 212807127591. 3
 212807127592. 4

Question Number : 518 Question Id : 21280731898 Question Type : MCQ Option Shuffling : No Is Question Mandatory : No Calculator : None
 Response Time : N.A Think Time : N.A Minimum Instruction Time : 0

Correct Marks : 5 Wrong Marks : 1

Question Key Details :

Key	Value
Comprehension	MCQ

सूची - I का सूची - II से मिलान करें।

सूची - I

(कॉलर स्टैड का विवरण)

- (A) नट सिरे की चूड़ीदार लम्बाई
 (B) कॉलर का व्यास
 (C) कॉलर की मोटाई
 (D) मेटल सिरे की लम्बाई

सूची - II

(मानक आयाम)

- (I) d
 (II) 0.4 d
 (III) 1.5 d
 (IV) 2 d + 6

नीचे दिये गये विकल्पों में से सही उत्तर चुनें।

- (1) (A)-(IV), (B)-(III), (C)-(II), (D)-(I)
 (2) (A)-(I), (B)-(II), (C)-(III), (D)-(IV)
 (3) (A)-(II), (B)-(IV), (C)-(I), (D)-(III)
 (4) (A)-(I), (B)-(III), (C)-(II), (D)-(IV)

Options :

212807127589. 1
 212807127590. 2
 212807127591. 3
 212807127592. 4

Question Number : 519 Question Id : 21280731899 Question Type : MCQ Option Shuffling : No Is Question Mandatory : No Calculator : None Response Time : N.A Think Time : N.A Minimum Instruction Time : 0

Correct Marks : 5 Wrong Marks : 1

Question Key Details :

Key	Value
Comprehension	MCQ

Match List - I with List - II.

(Thread of P = Pitch, d = Actual depth and D = Theoretical depth)

List - I

(A) B.S.W. Thread

(B) Metric thread (internal)

(C) Metric thread (external)

(D) Square thread

List - II

(I) $d = 0.61 P$

(II) $D = 0.96 P$

(III) $d = 0.54 P$

(IV) $D = 0.50 P$

Choose the correct answer from the options given below :

(1) (A)-(I), (B)-(II), (C)-(III), (D)-(IV)

(2) (A)-(IV), (B)-(III), (C)-(II), (D)-(I)

(3) (A)-(III), (B)-(I), (C)-(IV), (D)-(II)

(4) (A)-(II), (B)-(III), (C)-(I), (D)-(IV)

Options :

212807127593. 1

212807127594. 2

212807127595. 3

212807127596. 4

Question Number : 519 Question Id : 21280731899 Question Type : MCQ Option Shuffling : No Is Question Mandatory : No Calculator : None Response Time : N.A Think Time : N.A Minimum Instruction Time : 0

Correct Marks : 5 Wrong Marks : 1

Question Key Details :

Key	Value
Comprehension	MCQ

सूची - I का सूची - II से मिलान करें।

चूड़ी की पिच 'P' और d = वास्तविक गहराई (Actual Depth) D = सैद्धांतिक गहराई (Theoretical DEPTH)

सूची - I

(A) बी.एस.डब्ल्यू. चूड़ी

(B) बाह्य मीट्रिक चूड़ी

(C) अन्तः मीट्रिक चूड़ी

(D) वर्गाकार चूड़ी

सूची - II

(I) $d = 0.61 P$

(II) $D = 0.96 P$

(III) $d = 0.54 P$

(IV) $D = 0.50 P$

नीचे दिये गये विकल्पों में से सही उत्तर चुनें।

(1) (A)-(I), (B)-(II), (C)-(III), (D)-(IV)

(2) (A)-(IV), (B)-(III), (C)-(II), (D)-(I)

(3) (A)-(III), (B)-(I), (C)-(IV), (D)-(II)

(4) (A)-(II), (B)-(III), (C)-(I), (D)-(IV)

Options :

212807127593. 1

212807127594. 2

212807127595. 3

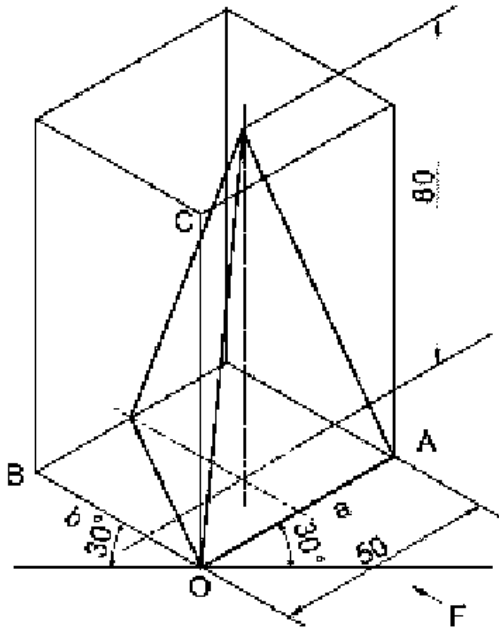
Question Number : 520 Question Id : 21280731900 Question Type : MCQ Option Shuffling : No Is Question Mandatory : No Calculator : None
 Response Time : N.A Think Time : N.A Minimum Instruction Time : 0

Correct Marks : 5 Wrong Marks : 1

Question Key Details :

Key	Value
Comprehension	MCQ

Identify the **correct** statements for the given figure :



- (A) A triangular pyramid is resting on H.P. on its base.
- (B) A triangular pyramid is resting on H.P. on its apex.
- (C) Axis of pyramid is perpendicular to H.P.
- (D) Axis of pyramid is parallel to H.P.
- (E) Axis of pyramid is perpendicular to V.P.

Choose the **correct** answer from the options given below :

- (1) (A) and (B) Only
- (2) (B) and (D) Only
- (3) (A) and (C) Only
- (4) (D) and (E) Only

Options :

212807127597. 1

212807127598. 2

212807127599. 3

212807127600. 4

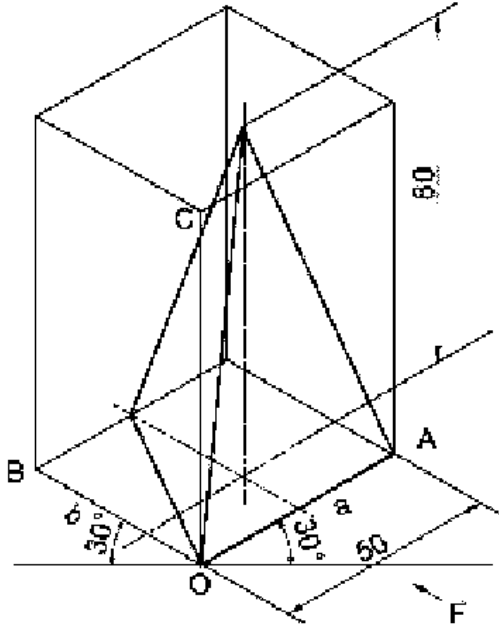
Question Number : 520 Question Id : 21280731900 Question Type : MCQ Option Shuffling : No Is Question Mandatory : No Calculator : None
 Response Time : N.A Think Time : N.A Minimum Instruction Time : 0

Correct Marks : 5 Wrong Marks : 1

Question Key Details :

Key	Value
Comprehension	MCQ

दिए गए चित्र के लिए सही कथनों की पहचान करें :



- (A) एक त्रिभुजाकार पिरैमिड एच.पी. पर अपने आधार पर रखा है।
 (B) एक त्रिभुजाकार पिरैमिड एच.पी. पर अपने शीर्ष पर रखा है।
 (C) पिरैमिड का अक्ष एच.पी. पर लम्बवत् है।
 (D) पिरैमिड का अक्ष एच.पी. के समानांतर है।
 (E) पिरैमिड का अक्ष वी.पी. के लम्बवत् है।

नीचे दिये गये विकल्पों में से सही उत्तर चुनें।

- (1) केवल (A) और (B)
 (2) केवल (B) और (D)
 (3) केवल (A) और (C)
 (4) केवल (D) और (E)

Options :

212807127597. 1
 212807127598. 2
 212807127599. 3
 212807127600. 4

Question Number : 521 Question Id : 21280731901 Question Type : MCQ Option Shuffling : No Is Question Mandatory : No Calculator : None
 Response Time : N.A Think Time : N.A Minimum Instruction Time : 0

Correct Marks : 5 Wrong Marks : 1

Question Key Details :

Key	Value
Comprehension	MCQ

Identify the **correct** statements for the types of projection :

- (A) Axonometric projection is of three types.
- (B) In dimetric projection, all the angles between principal axes are equal.
- (C) In isometric projection, lines parallel to principal axes are known as isometric line.
- (D) Perspective projection is a type of parallel projection.
- (E) Orthographic projection is a single plane projection.

Choose the **correct** answer from the options given below :

- (1) (B) and (D) Only
- (2) (A) and (C) Only
- (3) (B) and (E) Only
- (4) (D) and (E) Only

Options :

- 212807127601. 1
- 212807127602. 2
- 212807127603. 3
- 212807127604. 4

Question Number : 521 Question Id : 21280731901 Question Type : MCQ Option Shuffling : No Is Question Mandatory : No Calculator : None Response Time : N.A Think Time : N.A Minimum Instruction Time : 0

Correct Marks : 5 Wrong Marks : 1

Question Key Details :

Key	Value
Comprehension	MCQ

प्रक्षेपणों के प्रकार के लिए **सही** कथनों की पहचान करें :

- (A) अक्षमितिय प्रक्षेपण तीन प्रकार के होते हैं।
- (B) द्विमितिय प्रक्षेपण में मुख्य अक्षों के मध्य के सभी कोण समान होते हैं।
- (C) समपरिमाण प्रक्षेपण में मुख्य अक्षों के समानांतर रेखाओं को समपरिमाण रेखाएं कहते हैं।
- (D) परिपेक्ष्य प्रक्षेपण समानांतर प्रक्षेपण का एक प्रकार है।
- (E) लम्बकोणिय प्रक्षेपण एक तल वाला प्रक्षेपण है।

नीचे दिये गये विकल्पों में से **सही** उत्तर चुनें।

- (1) केवल (B) तथा (D)
- (2) केवल (A) तथा (C)
- (3) केवल (B) तथा (E)
- (4) केवल (D) तथा (E)

Options :

- 212807127601. 1
- 212807127602. 2
- 212807127603. 3
- 212807127604. 4

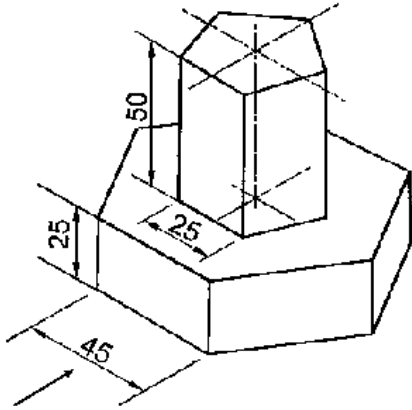
Question Number : 522 Question Id : 21280731902 Question Type : MCQ Option Shuffling : No Is Question Mandatory : No Calculator : None Response Time : N.A Think Time : N.A Minimum Instruction Time : 0

Correct Marks : 5 Wrong Marks : 1

Question Key Details :

Key	Value
Comprehension	MCQ

Identify the **correct** statements for the given figure :



- (A) A hexagonal prism is resting on a pentagonal prism.
- (B) A pentagonal pyramid is resting on a hexagonal prism.
- (C) Common Axis is perpendicular to H.P.
- (D) Common Axis is Parallel to H.P.
- (E) A Pentagonal prism is resting on a hexagonal prism.

Choose the **correct** answer from the options given below :

- (1) (A) and (D) Only
- (2) (C) and (E) Only
- (3) (B) and (D) Only
- (4) (A) and (E) Only

Options :

- 212807127605. 1
- 212807127606. 2
- 212807127607. 3
- 212807127608. 4

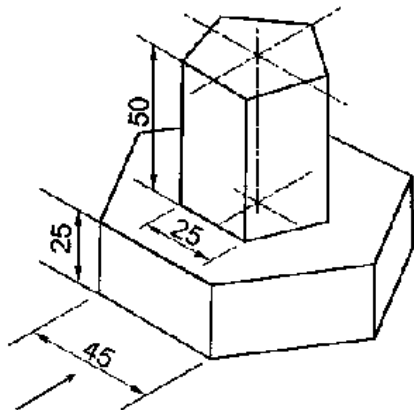
Question Number : 522 Question Id : 21280731902 Question Type : MCQ Option Shuffling : No Is Question Mandatory : No Calculator : None Response Time : N.A Think Time : N.A Minimum Instruction Time : 0

Correct Marks : 5 Wrong Marks : 1

Question Key Details :

Key	Value
Comprehension	MCQ

दिए गए चित्र के लिए सही कथनों की पहचान करें :



- (A) एक षट्भुजाकार प्रिज्म एक पंचभुजाकार प्रिज्म के ऊपर रखा है।
(B) एक पंचभुजाकार पिरैमिड एक षट्भुजाकार प्रिज्म के ऊपर रखा है।
(C) सह-अक्ष एच.पी. के लम्बवत् है।
(D) सह-अक्ष एच.पी. के समानांतर है।
(E) एक पंचभुजाकार प्रिज्म एक षट्भुजाकार प्रिज्म के ऊपर रखा है।

नीचे दिये गये विकल्पों में से सही उत्तर चुनें।

- (1) केवल (A) तथा (D)
(2) केवल (C) तथा (E)
(3) केवल (B) तथा (D)
(4) केवल (A) तथा (E)

Options :

212807127605. 1
212807127606. 2
212807127607. 3
212807127608. 4

Question Number : 523 Question Id : 21280731903 Question Type : MCQ Option Shuffling : No Is Question Mandatory : No Calculator : None
Response Time : N.A Think Time : N.A Minimum Instruction Time : 0

Correct Marks : 5 Wrong Marks : 1

Question Key Details :

Key	Value
Comprehension	MCQ

Identify the **correct** statements for the Rivets :

- (A) Rivets has threaded portion at one end.
- (B) Rivets are called headless bolt.
- (C) Rivets are permanent fasteners.
- (D) Rivets are widely used in clay articles.
- (E) Rivets are used in boilers.

Choose the **correct** answer from the options given below :

- (1) (A) and (D) Only
- (2) (B) and (C) Only
- (3) (C) and (E) Only
- (4) (D) and (E) Only

Options :

- 212807127609. 1
- 212807127610. 2
- 212807127611. 3
- 212807127612. 4

Question Number : 523 Question Id : 21280731903 Question Type : MCQ Option Shuffling : No Is Question Mandatory : No Calculator : None Response Time : N.A Think Time : N.A Minimum Instruction Time : 0

Correct Marks : 5 Wrong Marks : 1

Question Key Details :

Key	Value
Comprehension	MCQ

रिवेट के लिये **सही** कथनों की पहचान करें :

- (A) रिवेट के एक सिरे चूड़ी होती हैं।
- (B) रिवेट को बिना हैड का बोल्ट कहते है।
- (C) रिवेट स्थाई बंधक होते हैं।
- (D) रिवेट को ज्यादातर मिट्टी (क्ले) की कृति बनाने के लिये प्रयोग किया जाता है।
- (E) रिवेट बॉइलर में प्रयोग होती हैं।

नीचे दिये गये विकल्पों में से **सही** उत्तर चुनें।

- (1) केवल (A) तथा (D)
- (2) केवल (B) तथा (C)
- (3) केवल (C) तथा (E)
- (4) केवल (D) तथा (E)

Options :

- 212807127609. 1
- 212807127610. 2
- 212807127611. 3
- 212807127612. 4

Question Number : 524 Question Id : 21280731904 Question Type : MCQ Option Shuffling : No Is Question Mandatory : No Calculator : None Response Time : N.A Think Time : N.A Minimum Instruction Time : 0

Correct Marks : 5 Wrong Marks : 1

Question Key Details :

Key	Value
Comprehension	MCQ

Identify the correct statements for the Nut :

- (A) Chamfering is done to save material.
- (B) A circular disc having a non-threaded hole is nut.
- (C) A prism having a threaded hole is nut.
- (D) Thickness of nut is equal to nominal diameter of its bolt.
- (E) Only octagonal nuts are used every where.

Choose the correct answer from the options given below :

- (1) (A) and (B) Only
- (2) (C) and (D) Only
- (3) (D) and (E) Only
- (4) (B) and (C) Only

Options :

- 212807127613. 1
- 212807127614. 2
- 212807127615. 3
- 212807127616. 4

Question Number : 524 Question Id : 21280731904 Question Type : MCQ Option Shuffling : No Is Question Mandatory : No Calculator : None Response Time : N.A Think Time : N.A Minimum Instruction Time : 0

Correct Marks : 5 Wrong Marks : 1

Question Key Details :

Key	Value
Comprehension	MCQ

नॉट के लिये सही कथनों की पहचान करें :

- (A) पदाथ को बचाने के लिए चैम्फरिंग की जाती है।
- (B) एक वृत्ताकार डिस्क जिसमें एक छिद्र है, नॉट होता है।
- (C) एक वर्गाकार प्रिज्म जिसमें एक चूड़ीदार छिद्र है, नॉट होता है।
- (D) नॉट की मोटाई इसके बोल्ट के नॉमिनल व्यास के बराबर होती है।
- (E) केवल अष्टभुजीय नॉटों का प्रयोग हर जगह किया जाता है।

नीचे दिये गये विकल्पों में से सही उत्तर चुनें।

- (1) केवल (A) और (B)
- (2) केवल (C) और (D)
- (3) केवल (D) और (E)
- (4) केवल (B) और (C)

Options :

- 212807127613. 1
- 212807127614. 2
- 212807127615. 3
- 212807127616. 4

Question Number : 525 Question Id : 21280731905 Question Type : MCQ Option Shuffling : No Is Question Mandatory : No Calculator : None Response Time : N.A Think Time : N.A Minimum Instruction Time : 0

Correct Marks : 5 Wrong Marks : 1

Question Key Details :

Key	Value
Comprehension	MCQ

Identify the **correct** statements for the Gib and cotter joint :

- (A) In gib and cotter joint two cotters are used.
- (B) Cotter is a permanent fastener.
- (C) Usually taper ratio of cotter is taken as 1:30.
- (D) The thickness of gib is same as that of cotter.
- (E) Both gib and cotter have taper on their all edges.

Choose the **correct** answer from the options given below :

- (1) (C) and (D) Only
- (2) (A) and (B) Only
- (3) (D) and (E) Only
- (4) (B) and (C) Only

Options :

- 212807127617. 1
- 212807127618. 2
- 212807127619. 3
- 212807127620. 4

Question Number : 525 Question Id : 21280731905 Question Type : MCQ Option Shuffling : No Is Question Mandatory : No Calculator : None Response Time : N.A Think Time : N.A Minimum Instruction Time : 0

Correct Marks : 5 Wrong Marks : 1

Question Key Details :

Key	Value
Comprehension	MCQ

गिब और कॉटर जोड़ के लिये **सही** कथनों की पहचान करें :

- (A) गिब और कॉटर जोड़ में, दो कॉटर प्रयोग किए जाते हैं।
- (B) कॉटर एक स्थायी बंधक है।
- (C) आमतौर पर कॉटर के तिरछापन का अनुपात 1 : 30 है।
- (D) गिब की मोटाई कॉटर की मोटाई के बराबर है।
- (E) गिब और कॉटर दोनों के सभी किनारों पर तिरछापन होता है।

नीचे दिये गये विकल्पों में से **सही** उत्तर चुनिए।

- (1) केवल (C) और (D)
- (2) केवल (A) और (B)
- (3) केवल (D) और (E)
- (4) केवल (B) और (C)

Options :

- 212807127617. 1
- 212807127618. 2
- 212807127619. 3
- 212807127620. 4

Sub-Section Number :

2

Sub-Section Id :

2128072515

Question Shuffling Allowed :

No

Is Section Default? :

null

Question Number : 526 Question Id : 21280731906 Question Type : MCQ Option Shuffling : No Is Question Mandatory : No Calculator : None Response Time : N.A Think Time : N.A Minimum Instruction Time : 0

Correct Marks : 5 Wrong Marks : 1

Question Key Details :

Key	Value
Comprehension	Comp1

Read the following passage and answer the following question.

An engineering institute took their diploma students for an industrial visit to enhance their practical knowledge. After visiting the industry, students were very enthusiastic and inquisitive of the things they saw there. They asked their teacher about the helical groove cutting on a cylinder on external side using a machine called lathe. The teacher told them that this process is called threading and explained in detail.

A screw thread is an operating element of _____ fastening.

- (1) perspective
- (2) temporary
- (3) isometric
- (4) permanent

Options :

212807127621. 1
212807127622. 2
212807127623. 3
212807127624. 4

Question Number : 526 Question Id : 21280731906 Question Type : MCQ Option Shuffling : No Is Question Mandatory : No Calculator : None Response Time : N.A Think Time : N.A Minimum Instruction Time : 0

Correct Marks : 5 Wrong Marks : 1

Question Key Details :

Key	Value
Comprehension	Comp1

निम्नलिखित गद्यांश को पढ़ें और निम्नलिखित प्रश्नों के उत्तर दीजिए :

एक इंजीनियरिंग संस्थान अपने डिप्लोमा विद्यार्थियों को उनको प्रायोगिक ज्ञान को बढ़ाने के लिये औद्योगिक दौर (इंडस्ट्रियल विजिट) पर ले गया। इस दौर के बाद विद्यार्थी देखी हुई चीजों के बारे में बहुत उत्सहित और जिज्ञासु थे। उन्होंने अपने अध्यापक से एक लेथ मशीन, जो बेलन की बाहरी सतह पर कुंडलिय खाँचे काटती है, के बारे में पूछा। अध्यापक ने उन्हें सब विस्तृत जानकारी देते हुये बताया कि इस प्रक्रिया को चूड़ी काटना कहते हैं।

एक स्क्रू चूड़ी _____ फॉस्टनिंग का संचालक तत्व है।

- (1) परिपेक्ष्य
- (2) अस्थाई
- (3) समपरिमाण
- (4) स्थाई

Options :

212807127621. 1
212807127622. 2
212807127623. 3
212807127624. 4

Question Number : 527 Question Id : 21280731907 Question Type : MCQ Option Shuffling : No Is Question Mandatory : No Calculator : None Response Time : N.A Think Time : N.A Minimum Instruction Time : 0

Correct Marks : 5 Wrong Marks : 1

Question Key Details :

Key	Value
Comprehension	Comp1

Read the following passage and answer the following question.

An engineering institute took their diploma students for an industrial visit to enhance their practical knowledge. After visiting the industry, students were very enthusiastic and inquisitive of the things they saw there. They asked their teacher about the helical groove cutting on a cylinder on external side using a machine called lathe. The teacher told them that this process is called threading and explained in detail.

The outermost part of the threaded portion is called :

- (1) Flank
- (2) Root
- (3) Crest
- (4) Pitch

Options :

212807127625. 1
212807127626. 2
212807127627. 3
212807127628. 4

Question Number : 527 Question Id : 21280731907 Question Type : MCQ Option Shuffling : No Is Question Mandatory : No Calculator : None
Response Time : N.A Think Time : N.A Minimum Instruction Time : 0

Correct Marks : 5 Wrong Marks : 1

Question Key Details :

Key	Value
Comprehension	Comp1

निम्नलिखित गद्यांश को पढ़ें और निम्नलिखित प्रश्नों के उत्तर दीजिए :

एक इंजीनियरिंग संस्थान अपने डिप्लोमा विद्यार्थियों को उनको प्रायोगिक ज्ञान को बढ़ाने के लिये औद्योगिक दौर (इंडस्ट्रियल विजिट) पर ले गया। इस दौर के बाद विद्यार्थी देखी हुई चीजों के बारे में बहुत उत्सहित और जिज्ञासु थे। उन्होंने अपने अध्यापक से एक लेथ मशीन, जो बेलन की बाहरी सतह पर कुंडलित खूँचे काटती है, के बारे में पूछा। अध्यापक ने उन्हें सब विस्तृत जानकारी देते हुये बताया कि इस प्रक्रिया को चूड़ी काटना कहते हैं।

चूड़ीदार भाग के सबसे बाहरी हिस्से को _____ कहते हैं।

- (1) फ्लैंक
- (2) रूट
- (3) क्रैस्ट
- (4) पिच

Options :

212807127625. 1
212807127626. 2
212807127627. 3
212807127628. 4

Question Number : 528 Question Id : 21280731908 Question Type : MCQ Option Shuffling : No Is Question Mandatory : No Calculator : None
Response Time : N.A Think Time : N.A Minimum Instruction Time : 0

Correct Marks : 5 Wrong Marks : 1

Question Key Details :

Key	Value
Comprehension	Comp1

Read the following passage and answer the following question.

An engineering institute took their diploma students for an industrial visit to enhance their practical knowledge. After visiting the industry, students were very enthusiastic and inquisitive of the things they saw there. They asked their teacher about the helical groove cutting on a cylinder on external side using a machine called lathe. The teacher told them that this process is called threading and explained in detail.

The part on which external threads are formed is called :

- (1) Nut
- (2) Bolt
- (3) Rivet
- (4) Washer

Options :

212807127629. 1
212807127630. 2
212807127631. 3
212807127632. 4

Question Number : 528 Question Id : 21280731908 Question Type : MCQ Option Shuffling : No Is Question Mandatory : No Calculator : None
Response Time : N.A Think Time : N.A Minimum Instruction Time : 0

Correct Marks : 5 Wrong Marks : 1

Question Key Details :

Key	Value
Comprehension	Comp1

निम्नलिखित गद्यांश को पढ़े और निम्नलिखित प्रश्नों के उत्तर दीजिए :

एक इंजीनियरिंग संस्थान अपने डिप्लोमा विद्यार्थियों को उनको प्रायोगिक ज्ञान को बढ़ाने के लिये औद्योगिक दौर (इंडस्ट्रीयल विजिट) पर ले गया। इस दौर के बाद विद्यार्थी देखी हुई चीजों के बारे में बहुत उत्सहित और जिज्ञासु थे। उन्होंने अपने अध्यापक से एक लेथ मशीन, जो बेलन की बाहरी सतह पर कुंडलिय खाँचे काटती है, के बारे में पूछा। अध्यापक ने उन्हें सब विस्तृत जानकारी देते हुये बताया कि इस प्रक्रिया को चूड़ी काटना कहते हैं।

जिसके ऊपर बाह्य चूड़ी बनाते है, उसे _____ कहते है।

- (1) नॉट
- (2) बोल्ट
- (3) रिबेट
- (4) वॉशर

Options :

212807127629. 1
212807127630. 2
212807127631. 3
212807127632. 4

Question Number : 529 Question Id : 21280731909 Question Type : MCQ Option Shuffling : No Is Question Mandatory : No Calculator : None
Response Time : N.A Think Time : N.A Minimum Instruction Time : 0

Correct Marks : 5 Wrong Marks : 1

Question Key Details :

Key	Value
Comprehension	Comp1

Read the following passage and answer the following question.

An engineering institute took their diploma students for an industrial visit to enhance their practical knowledge. After visiting the industry, students were very enthusiastic and inquisitive of the things they saw there. They asked their teacher about the helical groove cutting on a cylinder on external side using a machine called lathe. The teacher told them that this process is called threading and explained in detail.

The special curve used in a screw thread is _____.

- (1) Hyperbola
- (2) Parabola
- (3) Ellipse
- (4) Helix

Options :

212807127633. 1
212807127634. 2
212807127635. 3
212807127636. 4

Question Number : 529 Question Id : 21280731909 Question Type : MCQ Option Shuffling : No Is Question Mandatory : No Calculator : None
Response Time : N.A Think Time : N.A Minimum Instruction Time : 0
Correct Marks : 5 Wrong Marks : 1

Question Key Details :

Key	Value
Comprehension	Comp1

निम्नलिखित गद्यांश को पढ़ें और निम्नलिखित प्रश्नों के उत्तर दीजिए :

एक इंजीनियरिंग संस्थान अपने डिप्लोमा विद्यार्थियों को उनको प्रायोगिक ज्ञान को बढ़ाने के लिये औद्योगिक दौर (इंडस्ट्रीयल विजिट) पर ले गया। इस दौर के बाद विद्यार्थी देखी हुई चीजों के बारे में बहुत उत्सहित और जिज्ञासु थे। उन्होंने अपने अध्यापक से एक लेथ मशीन, जो बेलन की बाहरी सतह पर कुंडलित खूँचे काटती है, के बारे में पूछा। अध्यापक ने उन्हें सब विस्तृत जानकारी देते हुये बताया कि इस प्रक्रिया को चूड़ी काटना कहते हैं।

स्कू चूड़ी में प्रयोग होने वाली विशेष वक्र _____ है।

- (1) अतिपरवलय
- (2) परवलय
- (3) दीर्घवृत्तीय
- (4) कुंडलित वक्रता

Options :

212807127633. 1
212807127634. 2
212807127635. 3
212807127636. 4

Question Number : 530 Question Id : 21280731910 Question Type : MCQ Option Shuffling : No Is Question Mandatory : No Calculator : None
Response Time : N.A Think Time : N.A Minimum Instruction Time : 0
Correct Marks : 5 Wrong Marks : 1

Question Key Details :

Key	Value
Comprehension	Comp1

Read the following passage and answer the following question.

An engineering institute took their diploma students for an industrial visit to enhance their practical knowledge. After visiting the industry, students were very enthusiastic and inquisitive of the things they saw there. They asked their teacher about the helical groove cutting on a cylinder on external side using a machine called lathe. The teacher told them that this process is called threading and explained in detail.

The surface between crest and root in a thread is called :

- (1) Flank
- (2) Pitch
- (3) Lead
- (4) Thread limits

Options :

212807127637. 1
212807127638. 2
212807127639. 3
212807127640. 4

Question Number : 530 Question Id : 21280731910 Question Type : MCQ Option Shuffling : No Is Question Mandatory : No Calculator : None
Response Time : N.A Think Time : N.A Minimum Instruction Time : 0
Correct Marks : 5 Wrong Marks : 1

Question Key Details :

Key	Value
Comprehension	Comp1

निम्नलिखित गद्यांश को पढ़ें और निम्नलिखित प्रश्नों के उत्तर दीजिए :

एक इंजीनियरिंग संस्थान अपने डिप्लोमा विद्यार्थियों को उनको प्रायोगिक ज्ञान को बढ़ाने के लिये औद्योगिक दौर (इंडस्ट्रियल विजिट) पर ले गया। इस दौर के बाद विद्यार्थी देखी हुई चीजों के बारे में बहुत उत्सहित और जिज्ञासु थे। उन्होंने अपने अध्यापक से एक लेथ मशीन, जो बेलन की बाहरी सतह पर कुंडलिय खाँचे काटती है, के बारे में पूछा। अध्यापक ने उन्हें सब विस्तृत जानकारी देते हुये बताया कि इस प्रक्रिया को चूड़ी काटना कहते हैं।

चूड़ी प्रोफाइल में क्रैस्ट तथा रूट के बीच के हिस्से _____ को कहते हैं।

- (1) फ्लैंक
- (2) पिच
- (3) लिड
- (4) चूड़ी की सीमा

Options :

212807127637. 1
212807127638. 2
212807127639. 3
212807127640. 4

Sub-Section Number : 3
Sub-Section Id : 2128072516
Question Shuffling Allowed : No
Is Section Default? : null

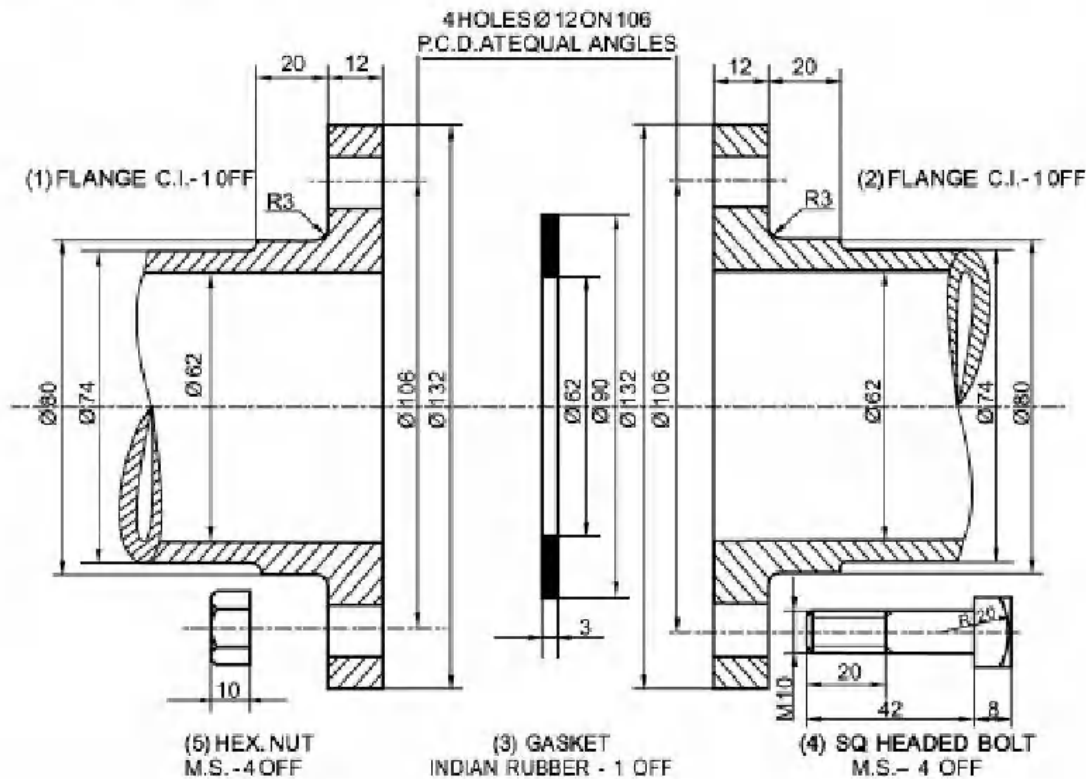
Question Number : 531 Question Id : 21280731911 Question Type : MCQ Option Shuffling : No Is Question Mandatory : No Calculator : None
Response Time : N.A Think Time : N.A Minimum Instruction Time : 0
Correct Marks : 5 Wrong Marks : 1

Question Key Details :

Key	Value
-----	-------

Read the following passage and answer the following question.

Your Engineering Graphics teacher takes your class to the lab and shows the model of "Flange pipe joint". He explained in detail how these joints are made and its specific uses. Later, he asked questions related to this joint in the class.



This joint is used for joining of two _____.

- (1) Rectangular rods
- (2) Pipes
- (3) Square rods
- (4) Plates

Options :

212807127641. 1
212807127642. 2
212807127643. 3
212807127644. 4

Question Number : 531 Question Id : 21280731911 Question Type : MCQ Option Shuffling : No Is Question Mandatory : No Calculator : None
Response Time : N.A Think Time : N.A Minimum Instruction Time : 0

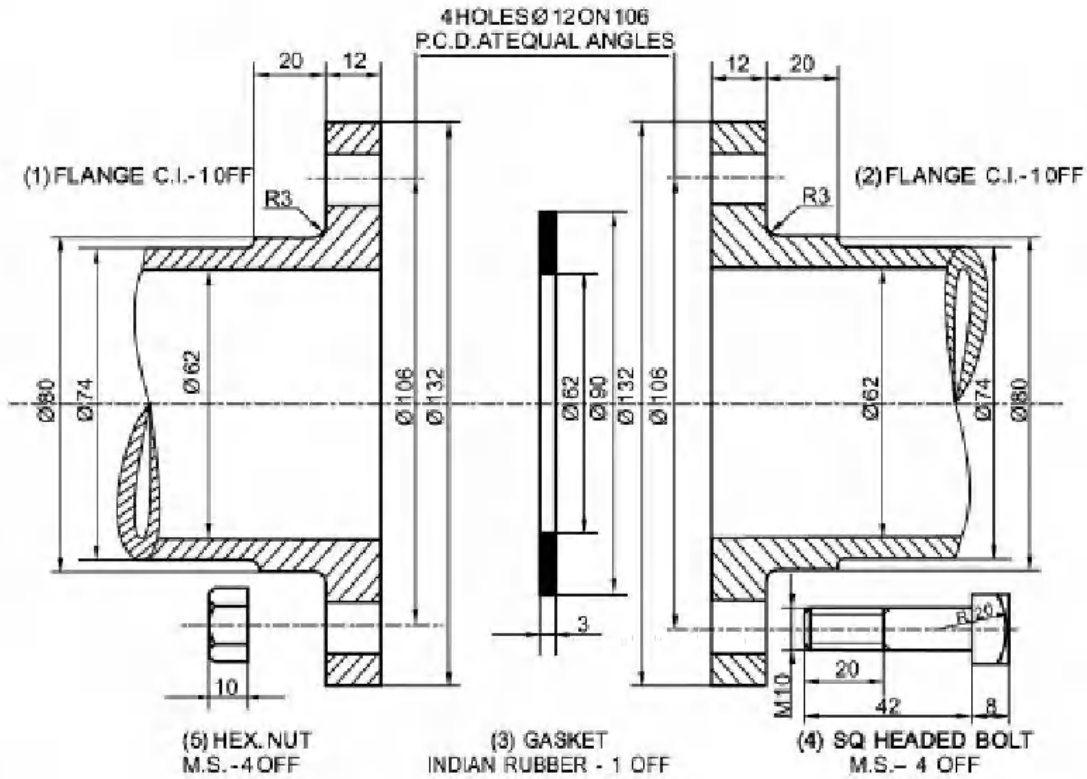
Correct Marks : 5 Wrong Marks : 1

Question Key Details :

Key	Value
Comprehension	Comp2

निम्नलिखित गद्यांश को पढ़ें और निम्नलिखित प्रश्नों के उत्तर दीजिए :

तुम्हारे इंजिनियरिंग ग्राफिक्स के अध्यापक तुम्हारी कक्षा को लैब (lab) लेकर जाते हैं और फ्लेंज पाइप जोड़ का मॉडल दिखाते हैं। उन्होंने इस जोड़ के निर्माण और इसके विशेष उपयोगों के बारे में विस्तृत जानकारी दी। बाद में उन्होंने कक्षा में इस जोड़ से सम्बन्धित प्रश्न पूछे।



यह जोड़ दो _____ को जोड़ने के लिए प्रयोग किया जाता है।

- (1) आयताकार छड़ों
- (2) पाइपों
- (3) वर्गाकार छड़ों
- (4) प्लेटों

Options :

212807127641. 1
212807127642. 2
212807127643. 3
212807127644. 4

Question Number : 532 Question Id : 21280731912 Question Type : MCQ Option Shuffling : No Is Question Mandatory : No Calculator : None Response Time : N.A Think Time : N.A Minimum Instruction Time : 0

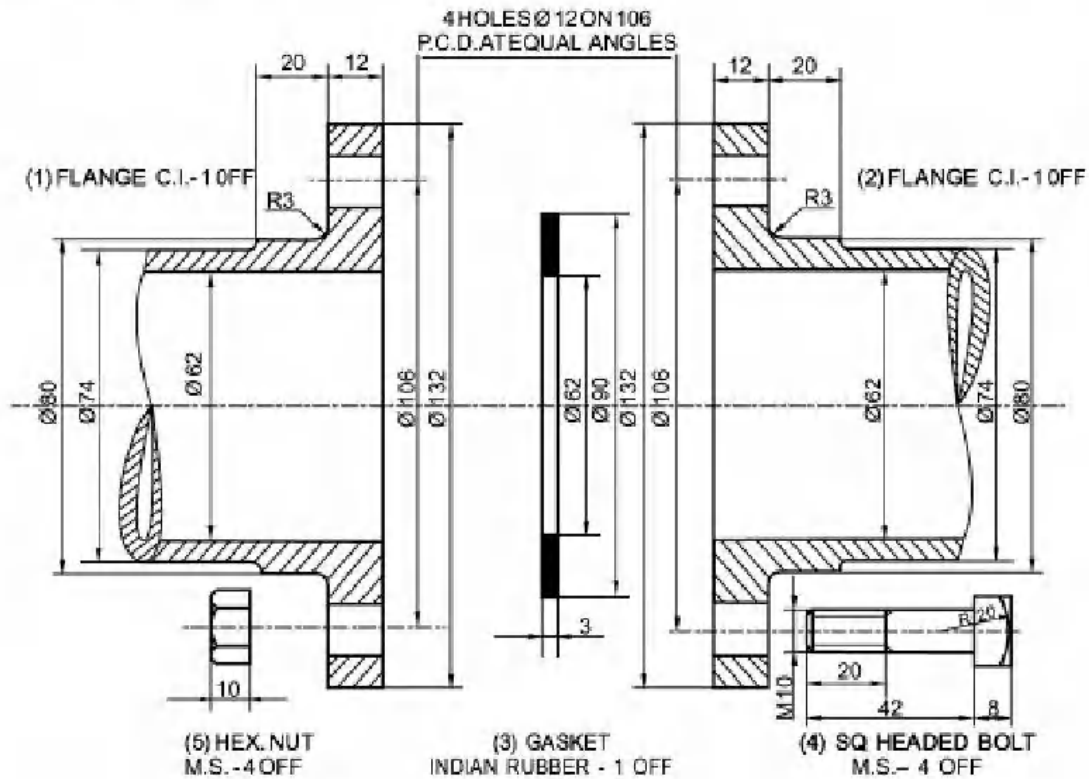
Correct Marks : 5 Wrong Marks : 1

Question Key Details :

Key	Value
Comprehension	Comp2

Read the following passage and answer the following question.

Your Engineering Graphics teacher takes your class to the lab and shows the model of "Flange pipe Joint". He explained in detail how these joints are made and its specific uses. Later, he asked questions related to this joint in the class.



Number of bolts used in the assembly according to figure.

- (1) Three
- (2) Four
- (3) Two
- (4) Five

Options :

- 212807127645. 1
- 212807127646. 2
- 212807127647. 3
- 212807127648. 4

Question Number : 532 Question Id : 21280731912 Question Type : MCQ Option Shuffling : No Is Question Mandatory : No Calculator : None Response Time : N.A Think Time : N.A Minimum Instruction Time : 0

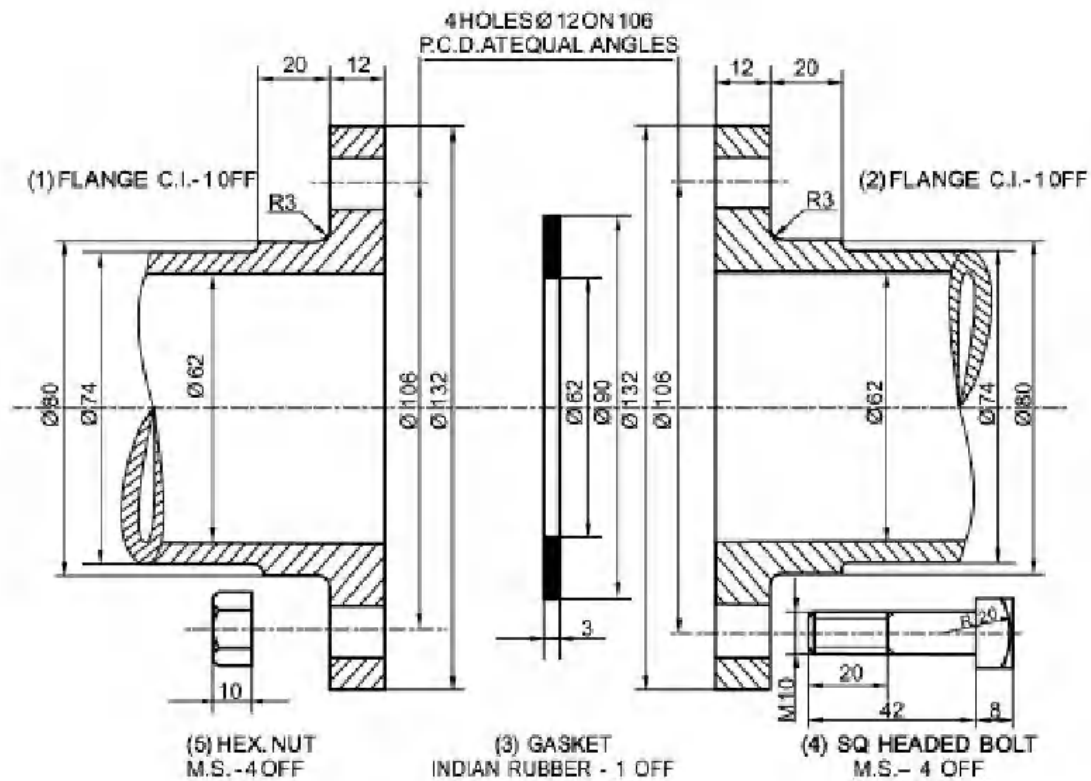
Correct Marks : 5 Wrong Marks : 1

Question Key Details :

Key	Value
Comprehension	Comp2

निम्नलिखित गद्यांश को पढ़ें और निम्नलिखित प्रश्नों के उत्तर दीजिए :

तुम्हारे इंजिनियरिंग ग्राफिक्स के अध्यापक तुम्हारी कक्षा को लैब (lab) लेकर जाते हैं और फ्लेंज पाइप जोड़ का मॉडल दिखाते हैं। उन्होंने इस जोड़ के निर्माण और इसके विशेष उपयोगों के बारे में विस्तृत जानकारी दी। बाद में उन्होंने कक्षा में इस जोड़ से सम्बन्धित प्रश्न पूछे।



चित्रानुसार असेम्बली में प्रयोग किए गए बोल्टों की संख्या _____ है।

- (1) तीन
- (2) चार
- (3) दो
- (4) पाँच

Options :

212807127645. 1
212807127646. 2
212807127647. 3
212807127648. 4

Question Number : 533 Question Id : 21280731913 Question Type : MCQ Option Shuffling : No Is Question Mandatory : No Calculator : None Response Time : N.A Think Time : N.A Minimum Instruction Time : 0

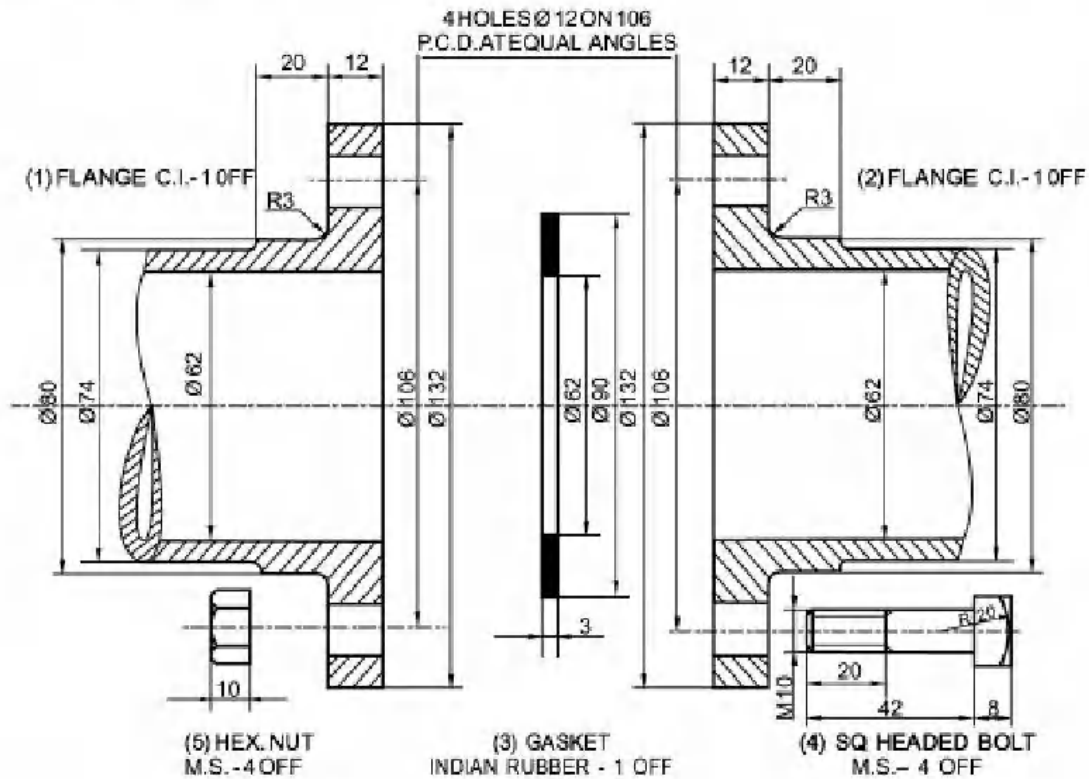
Correct Marks : 5 Wrong Marks : 1

Question Key Details :

Key	Value
Comprehension	Comp2

Read the following passage and answer the following question.

Your Engineering Graphics teacher takes your class to the lab and shows the model of "Flange pipe Joint". He explained in detail how these joints are made and its specific uses. Later, he asked questions related to this joint in the class.



The diameter of holes provided for bolt in the flanges is _____.

- (1) 08 mm
- (2) 20 mm
- (3) 12 mm
- (4) 10 mm

Options :

- 212807127649. 1
- 212807127650. 2
- 212807127651. 3
- 212807127652. 4

Question Number : 533 Question Id : 21280731913 Question Type : MCQ Option Shuffling : No Is Question Mandatory : No Calculator : None
Response Time : N.A Think Time : N.A Minimum Instruction Time : 0

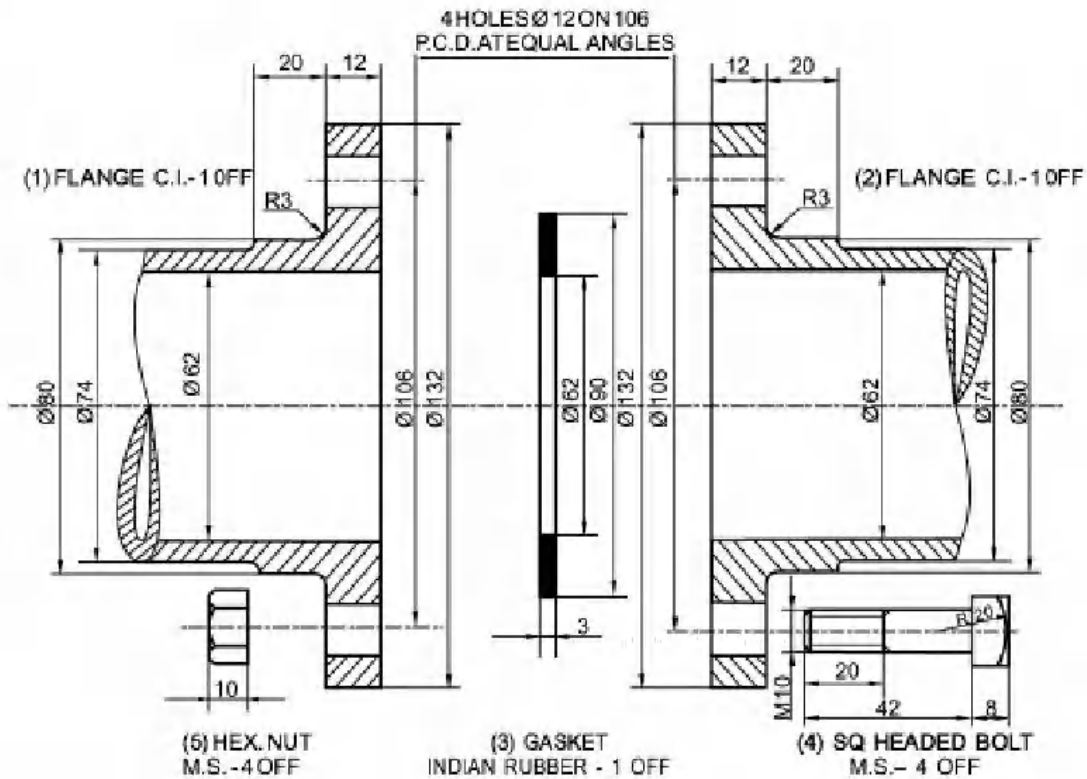
Correct Marks : 5 Wrong Marks : 1

Question Key Details :

Key	Value
Comprehension	Comp2

निम्नलिखित गद्यांश को पढ़ें और निम्नलिखित प्रश्नों के उत्तर दीजिए :

तुम्हारे इंजिनियरिंग ग्राफिक्स के अध्यापक तुम्हारी कक्षा को लैब (lab) लेकर जाते हैं और फ्लेंज पाइप जोड़ का मॉडल दिखाते हैं। उन्होंने इस जोड़ के निर्माण और इसके विशेष उपयोगों के बारे में विस्तृत जानकारी दी। बाद में उन्होंने कक्षा में इस जोड़ से सम्बन्धित प्रश्न पूछे।



फ्लेंजों में बोल्ट के लिए दिए गये छिद्रों का व्यास _____ है।

- (1) 08 मि.मी.
- (2) 20 मि.मी.
- (3) 12 मि.मी.
- (4) 10 मि.मी.

Options :

212807127649. 1
212807127650. 2
212807127651. 3
212807127652. 4

Question Number : 534 Question Id : 21280731914 Question Type : MCQ Option Shuffling : No Is Question Mandatory : No Calculator : None Response Time : N.A Think Time : N.A Minimum Instruction Time : 0

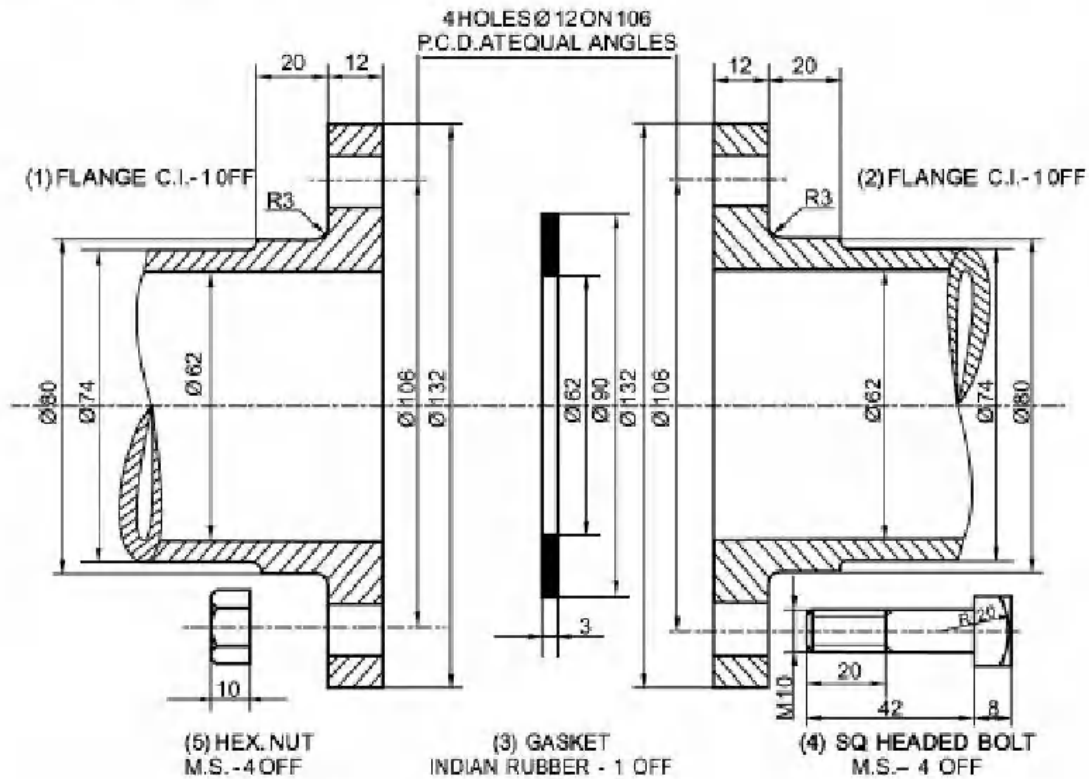
Correct Marks : 5 Wrong Marks : 1

Question Key Details :

Key	Value
Comprehension	Comp2

Read the following passage and answer the following question.

Your Engineering Graphics teacher takes your class to the lab and shows the model of "Flange pipe Joint". He explained in detail how these joints are made and its specific uses. Later, he asked questions related to this joint in the class.



Pitch circle diameter in the given figure is :

- (1) Φ 62 mm
- (2) Φ 80 mm
- (3) Φ 132 mm
- (4) Φ 106 mm

Options :

- 212807127653. 1
- 212807127654. 2
- 212807127655. 3
- 212807127656. 4

Question Number : 534 Question Id : 21280731914 Question Type : MCQ Option Shuffling : No Is Question Mandatory : No Calculator : None
Response Time : N.A Think Time : N.A Minimum Instruction Time : 0

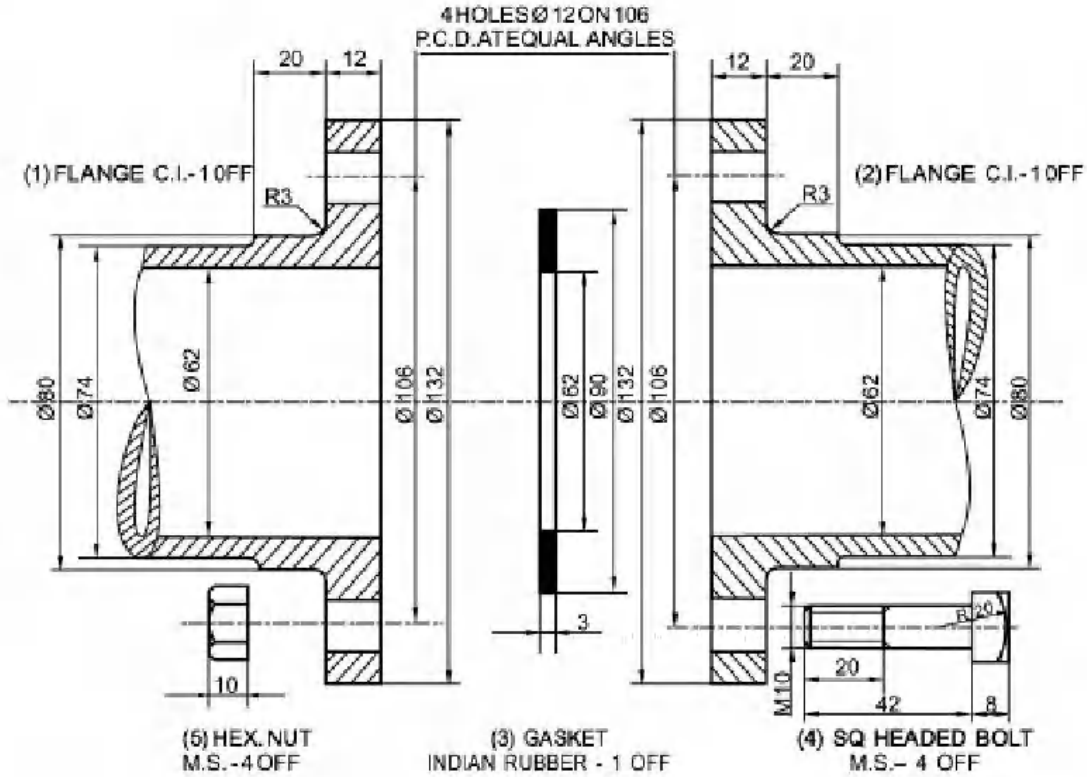
Correct Marks : 5 Wrong Marks : 1

Question Key Details :

Key	Value
Comprehension	Comp2

निम्नलिखित गद्यांश को पढ़ें और निम्नलिखित प्रश्नों के उत्तर दीजिए :

तुम्हारे इंजिनियरिंग ग्राफिक्स के अध्यापक तुम्हारी कक्षा को लैब (lab) लेकर जाते हैं और फ्लेंज पाइप जोड़ का मॉडल दिखाते हैं। उन्होंने इस जोड़ के निर्माण और इसके विशेष उपयोगों के बारे में विस्तृत जानकारी दी। बाद में उन्होंने कक्षा में इस जोड़ से सम्बन्धित प्रश्न पूछे।



दिये गये चित्र में पिच वृत्त का व्यास _____ है।

- (1) ϕ 62 मि.मी.
- (2) ϕ 80 मि.मी.
- (3) ϕ 132 मि.मी.
- (4) ϕ 106 मि.मी.

Options :

212807127653. 1
212807127654. 2
212807127655. 3
212807127656. 4

Question Number : 535 Question Id : 21280731915 Question Type : MCQ Option Shuffling : No Is Question Mandatory : No Calculator : None
Response Time : N.A Think Time : N.A Minimum Instruction Time : 0

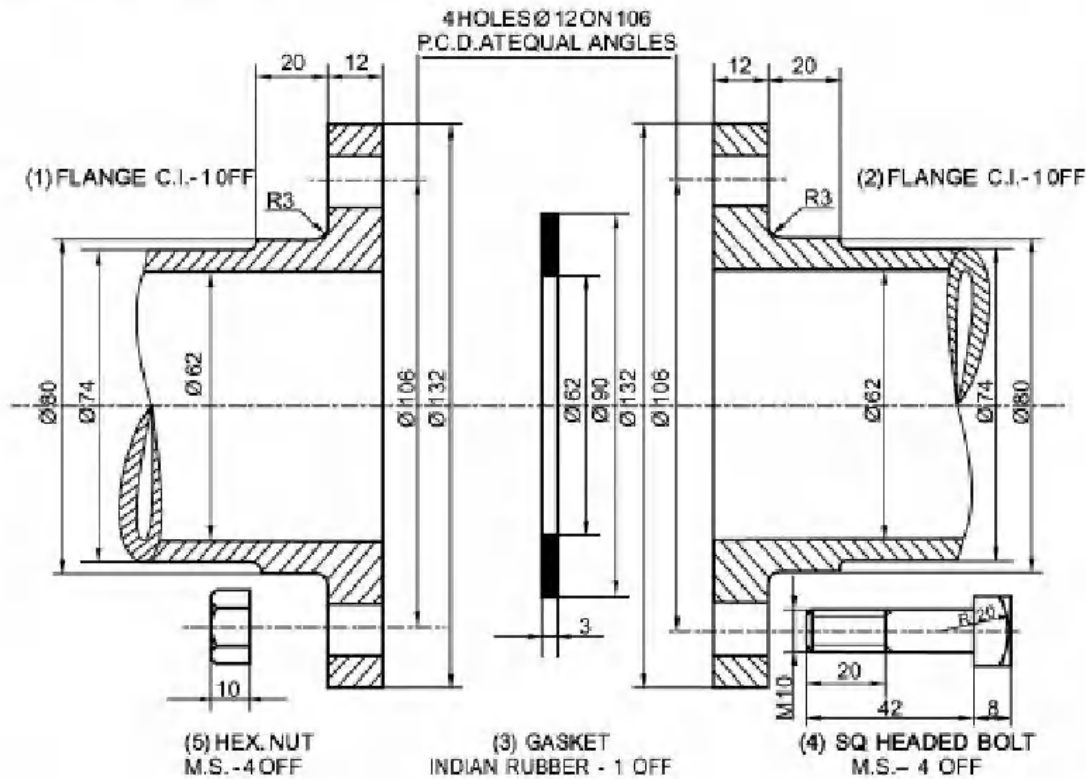
Correct Marks : 5 Wrong Marks : 1

Question Key Details :

Key	Value
Comprehension	Comp2

Read the following passage and answer the following question.

Your Engineering Graphics teacher takes your class to the lab and shows the model of "Flange pipe Joint". He explained in detail how these joints are made and its specific uses. Later, he asked questions related to this joint in the class.



Hollow cylindrical pipes have a projected circular ring/flared rim on their ends is known as _____.

- (1) Cotter
- (2) Flange
- (3) Gasket
- (4) Screw pair

Options :

212807127657. 1
212807127658. 2
212807127659. 3
212807127660. 4

Question Number : 535 Question Id : 21280731915 Question Type : MCQ Option Shuffling : No Is Question Mandatory : No Calculator : None
Response Time : N.A Think Time : N.A Minimum Instruction Time : 0

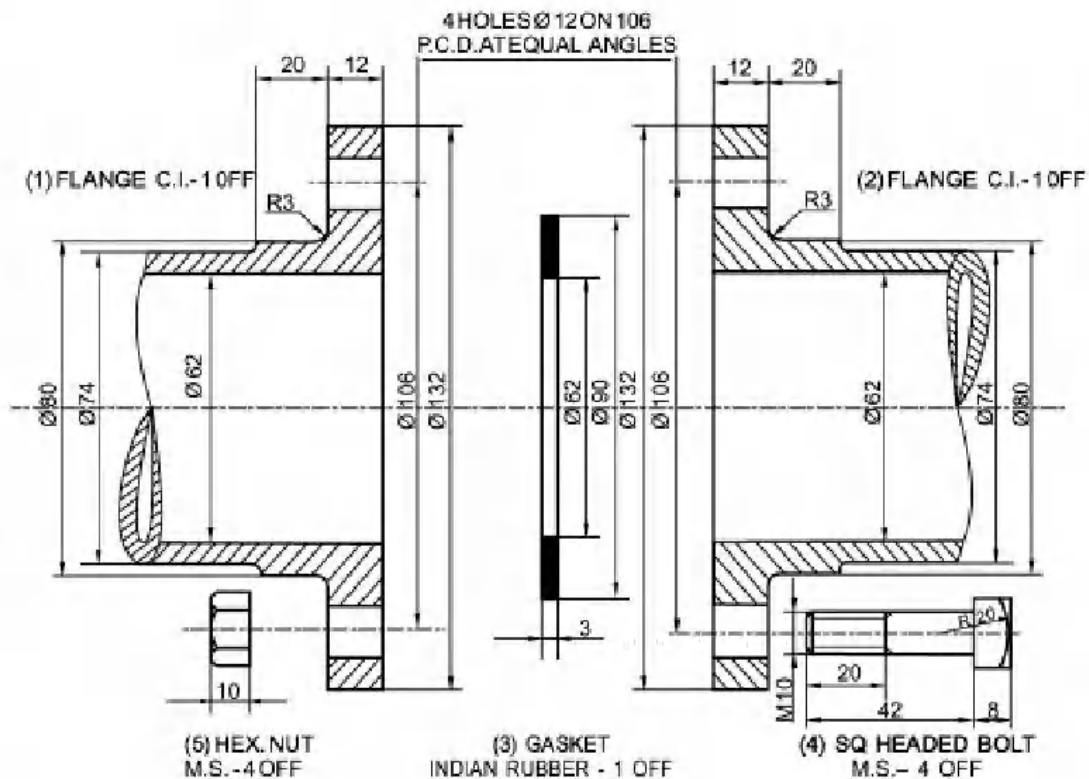
Correct Marks : 5 Wrong Marks : 1

Question Key Details :

Key	Value
Comprehension	Comp2

निम्नलिखित गद्यांश को पढ़ें और निम्नलिखित प्रश्नों के उत्तर दीजिए :

तुम्हारे इंजिनियरिंग ग्राफिक्स के अध्यापक तुम्हारी कक्षा को लैब (lab) लेकर जाते हैं और फ्लैज पाइप जोड़ का मॉडल दिखाते हैं। उन्होंने इस जोड़ के निर्माण और इसके विशेष उपयोगों के बारे में विस्तृत जानकारी दी। बाद में उन्होंने कक्षा में इस जोड़ से सम्बन्धित प्रश्न पूछे।



खोखले बेलनाकार पाइपों के सिरो पर झालरदार / वृत्ताकार रिम को _____ कहते हैं।

- (1) कॉटर
- (2) फ्लैज
- (3) गैसकेट
- (4) स्कू जोड़ा

Options :

212807127657. 1
212807127658. 2
212807127659. 3
212807127660. 4

Entrepreneurship

Group Number :	17
Group Id :	212807741
Group Maximum Duration :	45
Group Minimum Duration :	45
Show Attended Group? :	No
Edit Attended Group? :	No
Break time :	0
Group Marks :	200
Is this Group for Examiner? :	No
Examiner permission :	Cant View

Show Progress Bar? :

No

Entrepreneurship

Section Id :	212807873
Section Number :	1
Section type :	Online
Mandatory or Optional :	Mandatory
Number of Questions :	50
Number of Questions to be attempted :	40
Section Marks :	200
Enable Mark as Answered Mark for Review and Clear Response :	Yes
Maximum Instruction Time :	0
Sub-Section Number :	1
Sub-Section Id :	2128072517
Question Shuffling Allowed :	Yes
Is Section Default? :	null

Question Number : 536 Question Id : 21280732801 Question Type : MCQ Option Shuffling : No Is Question Mandatory : No Calculator : None Response Time : N.A Think Time : N.A Minimum Instruction Time : 0

Correct Marks : 5 Wrong Marks : 1

Question Key Details :

Key	Value
Comprehension	MCQ

Jethalal started a business of readymade garments for women. In order to gain better insight on tastes and preferences of his target market, he started to approach his target market i.e, ladies of age-group of 20 - 40 by using the platform of social media. Identify the 'Trend' followed by Jethalal .

- (1) Read Trend
- (2) Talk Trend
- (3) Think Trend
- (4) Watch Trend

Options :

- 212807131201. 1
- 212807131202. 2
- 212807131203. 3
- 212807131204. 4

Question Number : 536 Question Id : 21280732801 Question Type : MCQ Option Shuffling : No Is Question Mandatory : No Calculator : None Response Time : N.A Think Time : N.A Minimum Instruction Time : 0

Correct Marks : 5 Wrong Marks : 1

Question Key Details :

Key	Value
Comprehension	MCQ

जेठालाल ने महिलाओं के पूर्वनिर्मित पथिान का व्यवसाय शुरू किया। अपने लक्षित बाजार के रुचि और वरीयताओं के बारे में बेहतर जानकारी हासिल करने के लिए, उन्होंने सोशल मीडिया प्लेटफॉर्म का उपयोग करके अपने लक्षित बाजार यानी 20 - 40 आयु वर्ग की महिलाओं से संपर्क करना शुरू कर दिया। जेठालाल द्वारा अनुसरित 'प्रचलन' की पहचान करें।

- (1) पढ़ने का प्रचलन
- (2) बातें करने का प्रचलन
- (3) सोचने का प्रचलन
- (4) देखने का प्रचलन

Options :

- 212807131201. 1
- 212807131202. 2
- 212807131203. 3

Question Number : 537 Question Id : 21280732802 Question Type : MCQ Option Shuffling : No Is Question Mandatory : No Calculator : None
Response Time : N.A Think Time : N.A Minimum Instruction Time : 0

Correct Marks : 5 Wrong Marks : 1

Question Key Details :

Key	Value
Comprehension	MCQ

Which of the following factors is not be included in 'PESTEL' analysis ?

- (1) Political Changes
- (2) Socio-cultural aspects
- (3) Ecological Issues
- (4) Competitive Activities

Options :

212807131205. 1

212807131206. 2

212807131207. 3

212807131208. 4

Question Number : 537 Question Id : 21280732802 Question Type : MCQ Option Shuffling : No Is Question Mandatory : No Calculator : None
Response Time : N.A Think Time : N.A Minimum Instruction Time : 0

Correct Marks : 5 Wrong Marks : 1

Question Key Details :

Key	Value
Comprehension	MCQ

निम्नलिखित में से कौन-सा कारक पेस्टल (पी ई एस टी ई एल) विश्लेषण के कारक में शामिल नहीं है ?

- (1) राजनीतिक परिवर्तन
- (2) सामाजिक सांस्कृतिक पक्ष
- (3) पारिस्थितिकी मुद्दे
- (4) प्रतिस्पर्धी गतिविधियां

Options :

212807131205. 1

212807131206. 2

212807131207. 3

212807131208. 4

Question Number : 538 Question Id : 21280732803 Question Type : MCQ Option Shuffling : No Is Question Mandatory : No Calculator : None
Response Time : N.A Think Time : N.A Minimum Instruction Time : 0

Correct Marks : 5 Wrong Marks : 1

Question Key Details :

Key	Value
Comprehension	MCQ

Arrange the following in sequence for the steps involved in idea and opportunity assessment.

- (A) Application and use
- (B) Cost
- (C) Product identification
- (D) Competition
- (E) Level of operation

Choose the correct answer from the options given below :

- (1) (C), (A), (B), (D), (E)
- (2) (C), (A), (D), (E), (B)
- (3) (C), (A), (E), (D), (B)
- (4) (C), (A), (E), (B), (D)

Options :

- 212807131209. 1
- 212807131210. 2
- 212807131211. 3
- 212807131212. 4

Question Number : 538 Question Id : 21280732803 Question Type : MCQ Option Shuffling : No Is Question Mandatory : No Calculator : None Response Time : N.A Think Time : N.A Minimum Instruction Time : 0

Correct Marks : 5 Wrong Marks : 1

Question Key Details :

Key	Value
Comprehension	MCQ

विचार और अवसर मूल्यांकन में शामिल चरणों को अनुक्रम में व्यवस्थित करें।

- (A) आवेदन और उपयोग
- (B) लागत
- (C) उत्पाद की पहचान
- (D) प्रतिस्पर्धा
- (E) संचालन का स्तर

नीचे दिए गए विकल्पों में से सही उत्तर का चयन कीजिए :

- (1) (C), (A), (B), (D), (E)
- (2) (C), (A), (D), (E), (B)
- (3) (C), (A), (E), (D), (B)
- (4) (C), (A), (E), (B), (D)

Options :

- 212807131209. 1
- 212807131210. 2
- 212807131211. 3
- 212807131212. 4

Question Number : 539 Question Id : 21280732804 Question Type : MCQ Option Shuffling : No Is Question Mandatory : No Calculator : None Response Time : N.A Think Time : N.A Minimum Instruction Time : 0

Correct Marks : 5 Wrong Marks : 1

Question Key Details :

Key	Value
Comprehension	MCQ

Innovation is the process of entrepreneurship which involves the translation of a useful idea into an application which has commercial value. Arrange the process of innovation in sequence.

- (A) Resource organisation
- (B) Commercial Application
- (C) Analytical Planning
- (D) Implementation

Choose the correct answer from the options given below :

- (1) (A), (C), (B), (D)
- (2) (C), (A), (D), (B)
- (3) (C), (A), (B), (D)
- (4) (C), (B), (A), (D)

Options :

- 212807131213. 1
- 212807131214. 2
- 212807131215. 3
- 212807131216. 4

Question Number : 539 Question Id : 21280732804 Question Type : MCQ Option Shuffling : No Is Question Mandatory : No Calculator : None Response Time : N.A Think Time : N.A Minimum Instruction Time : 0

Correct Marks : 5 Wrong Marks : 1

Question Key Details :

Key	Value
Comprehension	MCQ

नवाचार प्रक्रिया उद्यमिता है जिसमें एक उपयोगी विचार का एक अनुप्रयोग में अनुवाद शामिल है जिसका व्यावसायिक मूल्य होता है। नवाचार की प्रक्रिया को क्रम से व्यवस्थित करें।

- (A) संसाधन संगठन
- (B) वाणिज्यिक अनुप्रयोग
- (C) विश्लेषणात्मक योजना
- (D) कार्यान्वयन

नीचे दिए गए विकल्पों में से सही उत्तर का चयन कीजिए :

- (1) (A), (C), (B), (D)
- (2) (C), (A), (D), (B)
- (3) (C), (A), (B), (D)
- (4) (C), (B), (A), (D)

Options :

- 212807131213. 1
- 212807131214. 2
- 212807131215. 3
- 212807131216. 4

Question Number : 540 Question Id : 21280732805 Question Type : MCQ Option Shuffling : No Is Question Mandatory : No Calculator : None Response Time : N.A Think Time : N.A Minimum Instruction Time : 0

Correct Marks : 5 Wrong Marks : 1

Question Key Details :

Key	Value
Comprehension	MCQ

Creativity provides stimulus for opportunity discovery and new venture creation. Arrange the following process of creativity in sequence.

- (A) Verification
- (B) Stage of new ideas
- (C) Illumination
- (D) Assimilation of information
- (E) Preparation

Choose the **correct** answer from the options given below :

- (1) (B), (E), (A), (C), (D)
- (2) (B), (E), (C), (D), (A)
- (3) (B), (E), (D), (C), (A)
- (4) (B), (E), (C), (A), (D)

Options :

- 212807131217. 1
- 212807131218. 2
- 212807131219. 3
- 212807131220. 4

Question Number : 540 Question Id : 21280732805 Question Type : MCQ Option Shuffling : No Is Question Mandatory : No Calculator : None
Response Time : N.A Think Time : N.A Minimum Instruction Time : 0

Correct Marks : 5 Wrong Marks : 1

Question Key Details :

Key	Value
Comprehension	MCQ

रचनात्मकता अवसर की खोज और नए उद्यम निर्माण के लिए प्रोत्साहन प्रदान करती है रचनात्मकता की निम्नलिखित प्रक्रिया को क्रम में व्यवस्थित करें।

- (A) सत्यापन
- (B) नए विचारों की अवस्था
- (C) प्रदीपन
- (D) सूचना का आत्मसात्करण
- (E) तैयारी करना

नीचे दिए गए विकल्पों में से **सही** उत्तर का चयन कीजिए :

- (1) (B), (E), (A), (C), (D)
- (2) (B), (E), (C), (D), (A)
- (3) (B), (E), (D), (C), (A)
- (4) (B), (E), (C), (A), (D)

Options :

- 212807131217. 1
- 212807131218. 2
- 212807131219. 3
- 212807131220. 4

Question Number : 541 Question Id : 21280732806 Question Type : MCQ Option Shuffling : No Is Question Mandatory : No Calculator : None
Response Time : N.A Think Time : N.A Minimum Instruction Time : 0

Correct Marks : 5 Wrong Marks : 1

Question Key Details :

Key	Value
-----	-------

Arrange the following form of business organisation from smallest to biggest on the basis of expansion under normal conditions.

- (A) Partnership
- (B) Sole Proprietorship
- (C) Private limited company
- (D) Public limited company

Choose the correct answer from the options given below :

- (1) (A), (B), (C), (D)
- (2) (D), (C), (A), (B)
- (3) (B), (A), (C), (D)
- (4) (C), (B), (D), (A)

Options :

- 212807131221. 1
- 212807131222. 2
- 212807131223. 3
- 212807131224. 4

Question Number : 541 Question Id : 21280732806 Question Type : MCQ Option Shuffling : No Is Question Mandatory : No Calculator : None Response Time : N.A Think Time : N.A Minimum Instruction Time : 0

Correct Marks : 5 Wrong Marks : 1

Question Key Details :

Key	Value
Comprehension	MCQ

व्यवसाय संगठन के निम्न स्वरूप को सबसे छोटे से बड़े के क्रम में व्यवस्थित करें।

- (A) साझेदारी
- (B) स्वामित्व
- (C) निजी लिमिटेड कंपनी
- (D) पब्लिक लिमिटेड कंपनी

नीचे दिए गए विकल्पों में से सही उत्तर का चयन कीजिए :

- (1) (A), (B), (C), (D)
- (2) (D), (C), (A), (B)
- (3) (B), (A), (C), (D)
- (4) (C), (B), (D), (A)

Options :

- 212807131221. 1
- 212807131222. 2
- 212807131223. 3
- 212807131224. 4

Question Number : 542 Question Id : 21280732807 Question Type : MCQ Option Shuffling : No Is Question Mandatory : No Calculator : None Response Time : N.A Think Time : N.A Minimum Instruction Time : 0

Correct Marks : 5 Wrong Marks : 1

Question Key Details :

Key	Value
Comprehension	MCQ

A direct sale by a company of its securities to a limited number of investors is called :

- (1) Initial public offering
- (2) Rights issue
- (3) Private Placement
- (4) Preferential Shares

Options :

212807131225. 1
212807131226. 2
212807131227. 3
212807131228. 4

Question Number : 542 Question Id : 21280732807 Question Type : MCQ Option Shuffling : No Is Question Mandatory : No Calculator : None
Response Time : N.A Think Time : N.A Minimum Instruction Time : 0

Correct Marks : 5 Wrong Marks : 1

Question Key Details :

Key	Value
Comprehension	MCQ

एक कंपनी द्वारा अपनी प्रतिभूतियों की सीमित संख्या में निवेशकों को प्रत्यक्ष बिक्री कहा जाता है :

- (1) प्रारम्भिक सार्वजनिक प्रस्ताव (IPO)
- (2) राइट इश्यू
- (3) निजी नियोजन/स्थानन
- (4) अधिमान्य शेयर्स/हिस्सेदारी

Options :

212807131225. 1
212807131226. 2
212807131227. 3
212807131228. 4

Question Number : 543 Question Id : 21280732808 Question Type : MCQ Option Shuffling : No Is Question Mandatory : No Calculator : None
Response Time : N.A Think Time : N.A Minimum Instruction Time : 0

Correct Marks : 5 Wrong Marks : 1

Question Key Details :

Key	Value
Comprehension	MCQ

Select the odd one out in case of funding in venture capital.

- (1) They may invest in one in four hundred opportunities presented to them
- (2) Not looking for rapid growth
- (3) A well developed business model
- (4) Looks for an exit in the time frame of typically 3-7 years

Options :

212807131229. 1
212807131230. 2
212807131231. 3
212807131232. 4

Question Number : 543 Question Id : 21280732808 Question Type : MCQ Option Shuffling : No Is Question Mandatory : No Calculator : None
Response Time : N.A Think Time : N.A Minimum Instruction Time : 0

Correct Marks : 5 Wrong Marks : 1

Question Key Details :

Key	Value
Comprehension	MCQ

जोखिम पूंजी में वित्तपोषण के मामले में विषम को चुनें।

- (1) वे इसे पेश किए गए चार सौ अवसरों में से एक में निवेश कर सकते हैं
- (2) त्वरित वृद्धि की तलाश नहीं
- (3) एक सुविकसित व्यापार मॉडल
- (4) आमतौर पर 3-7 साल के दशा में बाहर निकलने की तलाश करता है

Options :

212807131229. 1
212807131230. 2
212807131231. 3
212807131232. 4

Question Number : 544 Question Id : 21280732809 Question Type : MCQ Option Shuffling : No Is Question Mandatory : No Calculator : None
Response Time : N.A Think Time : N.A Minimum Instruction Time : 0

Correct Marks : 5 Wrong Marks : 1

Question Key Details :

Key	Value
Comprehension	MCQ

The initial cost of making a product is Rs. 1 lakh and variable cost per unit is Rs. 40. If its selling price is Rs. 80 per unit, what would be the break-even quantity ?

- (1) 2,500 Units
- (2) 3,500 Units
- (3) 5,000 Units
- (4) 7,000 Units

Options :

212807131233. 1
212807131234. 2
212807131235. 3
212807131236. 4

Question Number : 544 Question Id : 21280732809 Question Type : MCQ Option Shuffling : No Is Question Mandatory : No Calculator : None
Response Time : N.A Think Time : N.A Minimum Instruction Time : 0

Correct Marks : 5 Wrong Marks : 1

Question Key Details :

Key	Value
Comprehension	MCQ

एक उत्पाद बनाने की प्रारम्भिक लागत 1 लाख रुपये है और परिवर्तनीय लागत 40 रुपये इकाई है। यदि इसकी बिक्री मूल्य 80 रुपये प्रति इकाई है, तो लाभ-अलाभ मात्रा क्या होगी ?

- (1) 2,500 इकाईयां
- (2) 3,500 इकाईयां
- (3) 5,000 इकाईयां
- (4) 7,000 इकाईयां

Options :

212807131233. 1
212807131234. 2
212807131235. 3
212807131236. 4

Question Number : 545 Question Id : 21280732810 Question Type : MCQ Option Shuffling : No Is Question Mandatory : No Calculator : None
Response Time : N.A Think Time : N.A Minimum Instruction Time : 0

Correct Marks : 5 Wrong Marks : 1

Question Key Details :

Key	Value
Comprehension	MCQ

It is the order quantity of inventory that minimizes the total cost of inventory management.

- (1) Economic Order Quantity
- (2) Recorder point
- (3) Carrying cost
- (4) Operating cycles

Options :

212807131237. 1
212807131238. 2
212807131239. 3
212807131240. 4

Question Number : 545 Question Id : 21280732810 Question Type : MCQ Option Shuffling : No Is Question Mandatory : No Calculator : None
Response Time : N.A Think Time : N.A Minimum Instruction Time : 0

Correct Marks : 5 Wrong Marks : 1

Question Key Details :

Key	Value
Comprehension	MCQ

यह सूची की क्रम मात्रा है जो सूची प्रबंधन भी कुल लागत को कम करती है।

- (1) आर्थिक क्रम मात्रा
- (2) पुनः आदेश बिंदु
- (3) रखाव लागत
- (4) संचालन चक्र

Options :

212807131237. 1
212807131238. 2
212807131239. 3
212807131240. 4

Question Number : 546 Question Id : 21280732811 Question Type : MCQ Option Shuffling : No Is Question Mandatory : No Calculator : None
Response Time : N.A Think Time : N.A Minimum Instruction Time : 0

Correct Marks : 5 Wrong Marks : 1

Question Key Details :

Key	Value
Comprehension	MCQ

Estimate the Return on investment when an owner spends Rs. 50,000/- to open a shop and make a net profit of Rs. 5000 in one year.

- (1) 10%
- (2) 50%
- (3) 5%
- (4) 100%

Options :

212807131241. 1
212807131242. 2
212807131243. 3
212807131244. 4

Question Number : 546 Question Id : 21280732811 Question Type : MCQ Option Shuffling : No Is Question Mandatory : No Calculator : None
Response Time : N.A Think Time : N.A Minimum Instruction Time : 0

Correct Marks : 5 Wrong Marks : 1

Question Key Details :

Key	Value
-----	-------

जब एक मालिक एक दुकान खोलने के लिए 50,000 रुपये खर्च करता है और एक वर्ष में 5000 रुपये का शुद्ध लाभ कमाता है तो निवेश पर रिटर्न का अनुमान लगाएं।

- (1) 10%
- (2) 50%
- (3) 5%
- (4) 100%

Options :

212807131241. 1
212807131242. 2
212807131243. 3
212807131244. 4

Question Number : 547 Question Id : 21280732812 Question Type : MCQ Option Shuffling : No Is Question Mandatory : No Calculator : None
Response Time : N.A Think Time : N.A Minimum Instruction Time : 0

Correct Marks : 5 Wrong Marks : 1

Question Key Details :

Key	Value
Comprehension	MCQ

Financial plan does not include the following :

- (1) Proforma Balance Sheet
- (2) Break-even Analysis
- (3) Fund flow statement
- (4) Analysis of competitors profile

Options :

212807131245. 1
212807131246. 2
212807131247. 3
212807131248. 4

Question Number : 547 Question Id : 21280732812 Question Type : MCQ Option Shuffling : No Is Question Mandatory : No Calculator : None
Response Time : N.A Think Time : N.A Minimum Instruction Time : 0

Correct Marks : 5 Wrong Marks : 1

Question Key Details :

Key	Value
Comprehension	MCQ

वित्तीय योजना में निम्नलिखित शामिल नहीं है :

- (1) प्रारूप तुलन पत्र
- (2) लाभ अलाभ का विश्लेषण
- (3) वित्त प्रवाह विवरण
- (4) प्रतिस्पर्धियों की रूपरेखा का विश्लेषण

Options :

212807131245. 1
212807131246. 2
212807131247. 3
212807131248. 4

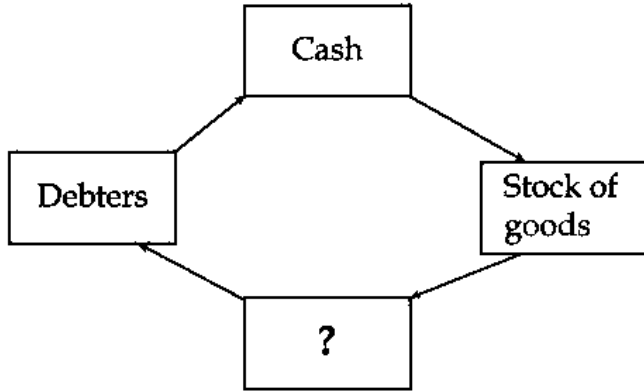
Question Number : 548 Question Id : 21280732813 Question Type : MCQ Option Shuffling : No Is Question Mandatory : No Calculator : None
Response Time : N.A Think Time : N.A Minimum Instruction Time : 0

Correct Marks : 5 Wrong Marks : 1

Question Key Details :

Key	Value

From the given diagram of cash conversion cycle for trading business, find out missing one.



- (1) Finished Goods
- (2) Work in progress
- (3) Sales
- (4) Raw material stocks

Options :

212807131249. 1
212807131250. 2
212807131251. 3
212807131252. 4

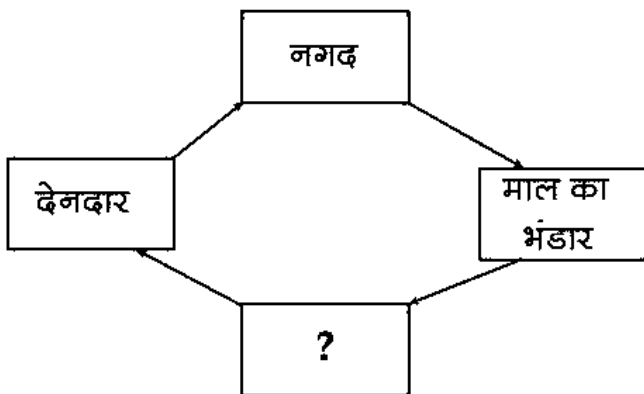
Question Number : 548 Question Id : 21280732813 Question Type : MCQ Option Shuffling : No Is Question Mandatory : No Calculator : None
Response Time : N.A Think Time : N.A Minimum Instruction Time : 0

Correct Marks : 5 Wrong Marks : 1

Question Key Details :

Key	Value
Comprehension	MCQ

व्यापारिक व्यवसाय के नगद रूपांतरण चक्र के दिए गए आरेख से, लुप्त एक का पता लगाएं।



- (1) निर्मित माल
- (2) कार्य की प्रगति
- (3) बिक्री
- (4) कच्चे माल का भंडार

Options :

212807131249. 1
212807131250. 2
212807131251. 3
212807131252. 4

Question Number : 549 Question Id : 21280732814 Question Type : MCQ Option Shuffling : No Is Question Mandatory : No Calculator : None
Response Time : N.A Think Time : N.A Minimum Instruction Time : 0

Correct Marks : 5 Wrong Marks : 1

Question Key Details :

Key	Value
Comprehension	MCQ

A merger that takes place between two business organizations that deal in products that are related to each other and operate in the same market.

- (1) Conglomerate merger
- (2) Market extension merger
- (3) Product extension merger
- (4) Vertical extension merger

Options :

212807131253. 1
212807131254. 2
212807131255. 3
212807131256. 4

Question Number : 549 Question Id : 21280732814 Question Type : MCQ Option Shuffling : No Is Question Mandatory : No Calculator : None
Response Time : N.A Think Time : N.A Minimum Instruction Time : 0

Correct Marks : 5 Wrong Marks : 1

Question Key Details :

Key	Value
Comprehension	MCQ

एक विलय जो दो व्यावसायिक संगठनों के बीच होता है, जो एक-दूसरे से संबंधित उत्पादों में सौदा करते हैं और एक ही बाजार में काम करते हैं।

- (1) संगुटिका (समूह) विलय
- (2) बाजार विस्तार विलय
- (3) उत्पाद विस्तार विलय
- (4) लम्बवत विस्तार विलय

Options :

212807131253. 1
212807131254. 2
212807131255. 3
212807131256. 4

Question Number : 550 Question Id : 21280732815 Question Type : MCQ Option Shuffling : No Is Question Mandatory : No Calculator : None
Response Time : N.A Think Time : N.A Minimum Instruction Time : 0

Correct Marks : 5 Wrong Marks : 1

Question Key Details :

Key	Value
Comprehension	MCQ

_____ is a type of franchise that provides an organization with the right to manufacture a product and sell it to the public.

- (1) Business Franchise opportunity venture
- (2) Product Franchise business opportunity
- (3) Manufacturing Franchise opportunity
- (4) Business format Franchise opportunity

Options :

212807131257. 1
212807131258. 2

212807131259. 3
212807131260. 4

Question Number : 550 Question Id : 21280732815 Question Type : MCQ Option Shuffling : No Is Question Mandatory : No Calculator : None
Response Time : N.A Think Time : N.A Minimum Instruction Time : 0
Correct Marks : 5 Wrong Marks : 1

Question Key Details :

Key	Value
Comprehension	MCQ

_____ एक प्रकार का फ्रैंचाइज़ी है जो किसी उत्पाद का निर्माण करने और उसे जनता को बेचने का अधिकार रखने वाला संगठन है।

- (1) व्यापार फ्रैंचाइज़ी अवसर उद्यम
- (2) उत्पाद फ्रैंचाइज़ी व्यापार अवसर
- (3) विनिर्माण फ्रैंचाइज़ी अवसर
- (4) व्यापार प्रारूप फ्रैंचाइज़ी अवसर

Options :

212807131257. 1
212807131258. 2
212807131259. 3
212807131260. 4

Question Number : 551 Question Id : 21280732816 Question Type : MCQ Option Shuffling : No Is Question Mandatory : No Calculator : None
Response Time : N.A Think Time : N.A Minimum Instruction Time : 0
Correct Marks : 5 Wrong Marks : 1

Question Key Details :

Key	Value
Comprehension	MCQ

Pranav is an entrepreneur producing LED lamps with brand name "Lavells". These lamps are in great demand. He finds that the cost of production per unit of lamp is ₹ 1600 and he can sell the same at ₹ 2000 per lamp. The competitors in the market are selling this type of lamp at the rate of ₹ 2400. Pranav's objective is not to earn profit in short run but to capture the largest market share. His expectation is that the customers will be attracted towards the new brand because of lower price. Identify the method of pricing adopted by Pranav to capture the substantial portion of the market.

- (1) Cost plus pricing
- (2) Penetration pricing
- (3) Skimming pricing
- (4) Variable pricing

Options :

212807131261. 1
212807131262. 2
212807131263. 3
212807131264. 4

Question Number : 551 Question Id : 21280732816 Question Type : MCQ Option Shuffling : No Is Question Mandatory : No Calculator : None
Response Time : N.A Think Time : N.A Minimum Instruction Time : 0
Correct Marks : 5 Wrong Marks : 1

Question Key Details :

Key	Value
Comprehension	MCQ

प्रणव एक उद्यमी हैं जो 'लैवेलस' नाम के ब्रांड के साथ एल ई डी लैंप का उत्पादन करता है। इन लैम्पों की काफी मांग है। वह पाता है कि प्रति यूनिट लैंप की उत्पादन लागत ₹ 1600 है और वह इसे ₹ 2000 प्रति लैंप बेच सकता है। बाजार में प्रतियोगी इस प्रकार के लैंप को ₹ 2400 की दर से बेच रहे हैं। प्रणव का उद्देश्य अल्पावधि में लाभ कमाना नहीं बल्कि सबसे बड़े बाजार हिस्से पर कब्जा करना है उसकी उम्मीद है कि कम कीमत की वजह से ग्राहक नए ब्रांड की ओर आकर्षित होंगे। बाजार में बड़े हिस्से पर कब्जा करने के लिए प्रणव द्वारा अपनाई गई मूल्य निर्धारण की पद्धति की पहचान करें।

- (1) लागत आधिक्य मूल्य निर्धारण
- (2) अंतर्वेधन मूल्य निर्धारण
- (3) मंथन मूल्य निर्धारण
- (4) चर मूल्य निर्धारण

Options :

212807131261. 1
212807131262. 2
212807131263. 3
212807131264. 4

Question Number : 552 Question Id : 21280732817 Question Type : MCQ Option Shuffling : No Is Question Mandatory : No Calculator : None Response Time : N.A Think Time : N.A Minimum Instruction Time : 0

Correct Marks : 5 Wrong Marks : 1

Question Key Details :

Key	Value
Comprehension	MCQ

Subash started with a franchise of AMUL Milk products. His business could not pick up and sales were too less to cover operating expenses. Which of the following reasons could be a cause of business failure ?

- (1) Adequate knowledge
- (2) Appropriate location
- (3) Lack of industry experience
- (4) Sound business planning

Options :

212807131265. 1
212807131266. 2
212807131267. 3
212807131268. 4

Question Number : 552 Question Id : 21280732817 Question Type : MCQ Option Shuffling : No Is Question Mandatory : No Calculator : None Response Time : N.A Think Time : N.A Minimum Instruction Time : 0

Correct Marks : 5 Wrong Marks : 1

Question Key Details :

Key	Value
Comprehension	MCQ

सुभाष ने अमूल दूध उत्पादों की फ्रैंचाइजी के साथ शुरुआत की। उसका व्यवसाय आगे नहीं बढ़ सका और परिचालन व्यय को करने के लिए बिक्री बहुत कम थी। निम्नलिखित में से कौन से कारण व्यवसाय की विफलता का कारण हो सकता है।

- (1) पर्याप्त ज्ञान
- (2) उपयुक्त स्थान
- (3) उद्योग के अनुभव की कमी
- (4) युक्तियुक्त व्यवसाय योजना

Options :

212807131265. 1

212807131266. 2
212807131267. 3
212807131268. 4

Question Number : 553 Question Id : 21280732818 Question Type : MCQ Option Shuffling : No Is Question Mandatory : No Calculator : None
Response Time : N.A Think Time : N.A Minimum Instruction Time : 0

Correct Marks : 5 Wrong Marks : 1

Question Key Details :

Key	Value
Comprehension	MCQ

The bitten apple has because the graphic symbol of unique identity of all products of Apple Inc. It gives instant recognition of the company. The above statement describes the concept of _____.

- (1) Brand name
- (2) Trade mark
- (3) Logo
- (4) Tagline

Options :

212807131269. 1
212807131270. 2
212807131271. 3
212807131272. 4

Question Number : 553 Question Id : 21280732818 Question Type : MCQ Option Shuffling : No Is Question Mandatory : No Calculator : None
Response Time : N.A Think Time : N.A Minimum Instruction Time : 0

Correct Marks : 5 Wrong Marks : 1

Question Key Details :

Key	Value
Comprehension	MCQ

कटा हुआ सेब इसलिए है क्योंकि ऐप्पल निगमित (Inc.) के सभी उत्पादों की अनूठी पहचान का ग्राफिक प्रतीक है। यह कंपनी की तुरंत पहचान देता है। उपरोक्त कथन की अवधारणा का वर्णन करता है।

- (1) ब्रांड का नाम
- (2) ट्रेड मार्क
- (3) लोगो
- (4) टैगलाइन

Options :

212807131269. 1
212807131270. 2
212807131271. 3
212807131272. 4

Question Number : 554 Question Id : 21280732819 Question Type : MCQ Option Shuffling : No Is Question Mandatory : No Calculator : None
Response Time : N.A Think Time : N.A Minimum Instruction Time : 0

Correct Marks : 5 Wrong Marks : 1

Question Key Details :

Key	Value
Comprehension	MCQ

Mukesh has created a new brand of clothes for babies below the age of 5 years. He wants to use below the line strategy. Which method he must not use under below the line strategy.

- (1) Sales promotion
- (2) Personal selling
- (3) TV Ads
- (4) Direct marketing

Options :

212807131273. 1
 212807131274. 2
 212807131275. 3
 212807131276. 4

Question Number : 554 Question Id : 21280732819 Question Type : MCQ Option Shuffling : No Is Question Mandatory : No Calculator : None Response Time : N.A Think Time : N.A Minimum Instruction Time : 0

Correct Marks : 5 Wrong Marks : 1

Question Key Details :

Key	Value
Comprehension	MCQ

मुकेश ने 5 साल से कम उम्र के बच्चों के लिए कपड़ों का एक नया ब्रांड बनाया है। वह रेखा के नीचे की रणनीति के तहत उसे किस विधि का उपयोग नहीं करना चाहिए।

- (1) बिक्री का प्रचार
- (2) व्यक्तिगत बिक्री
- (3) टी.वी. विज्ञापन
- (4) प्रत्यक्ष विपणन

Options :

212807131273. 1
 212807131274. 2
 212807131275. 3
 212807131276. 4

Question Number : 555 Question Id : 21280732820 Question Type : MCQ Option Shuffling : No Is Question Mandatory : No Calculator : None Response Time : N.A Think Time : N.A Minimum Instruction Time : 0

Correct Marks : 5 Wrong Marks : 1

Question Key Details :

Key	Value
Comprehension	MCQ

For the selling of customised products the marketing process requires, which channel of distribution from the following ?

- (1) Producer - Consumer
- (2) Product - Wholesaler - Retailer - Consumer
- (3) Producer - Agent - Retailer - Consumer
- (4) Producer - Retailer - Consumer

Options :

212807131277. 1
 212807131278. 2
 212807131279. 3
 212807131280. 4

Question Number : 555 Question Id : 21280732820 Question Type : MCQ Option Shuffling : No Is Question Mandatory : No Calculator : None Response Time : N.A Think Time : N.A Minimum Instruction Time : 0

Correct Marks : 5 Wrong Marks : 1

Question Key Details :

Key	Value
Comprehension	MCQ

उत्पाद की बिक्री के लिए ऑनलाइन मार्केटिंग प्रक्रिया की आवश्यकता होती है। निम्नलिखित से कौन-सा वितरण का माध्यम है?

- (1) उत्पादक - उपभोक्ता
- (2) उत्पाद - थोक विक्रेता - खुदरा व्यापारी - उपभोक्ता
- (3) उत्पादक - अभिकर्ता - खुदरा व्यापारी - उपभोक्ता
- (4) उत्पादक - खुदरा व्यापारी - उपभोक्ता

Options :

212807131277. 1
212807131278. 2
212807131279. 3
212807131280. 4

Question Number : 556 Question Id : 21280732821 Question Type : MCQ Option Shuffling : No Is Question Mandatory : No Calculator : None
Response Time : N.A Think Time : N.A Minimum Instruction Time : 0

Correct Marks : 5 Wrong Marks : 1

Question Key Details :

Key	Value
Comprehension	MCQ

It creates cost control and cost reduction pressures from the start, leading to greater efficiency. The statement is an advantage of which pricing method :

- (1) Cost plus pricing
- (2) Penetration pricing
- (3) Creaming pricing
- (4) Variable pricing

Options :

212807131281. 1
212807131282. 2
212807131283. 3
212807131284. 4

Question Number : 556 Question Id : 21280732821 Question Type : MCQ Option Shuffling : No Is Question Mandatory : No Calculator : None
Response Time : N.A Think Time : N.A Minimum Instruction Time : 0

Correct Marks : 5 Wrong Marks : 1

Question Key Details :

Key	Value
Comprehension	MCQ

यह शुरू से ही लागत नियंत्रण और लागत में कमी का दबाव बनाता है, जिससे अधिक दक्षता प्राप्त होती है।

यह कथन किस मूल्य निर्धारण पद्धति का एक लाभ है :

- (1) लागत आधिक्य मूल्य निर्धारण
- (2) अंतर्वेधन मूल्य निर्धारण
- (3) क्रीमिंग मूल्य निर्धारण
- (4) चर मूल्य निर्धारण

Options :

212807131281. 1
212807131282. 2
212807131283. 3
212807131284. 4

Question Number : 557 Question Id : 21280732822 Question Type : MCQ Option Shuffling : No Is Question Mandatory : No Calculator : None
Response Time : N.A Think Time : N.A Minimum Instruction Time : 0

Correct Marks : 5 Wrong Marks : 1

Question Key Details :

Key	Value
Comprehension	MCQ

Identify the correct explanation for proforma investment decisions :

- (1) It summarizes all the projected sources funds available to the venture to raise finance from
- (2) It relates to how the enterprise's funds are invested in different assets
- (3) It is the projected net profit calculated
- (4) It reflect the projected cash available with the enterprise

Options :

- 212807131285. 1
- 212807131286. 2
- 212807131287. 3
- 212807131288. 4

Question Number : 557 Question Id : 21280732822 Question Type : MCQ Option Shuffling : No Is Question Mandatory : No Calculator : None
Response Time : N.A Think Time : N.A Minimum Instruction Time : 0

Correct Marks : 5 Wrong Marks : 1

Question Key Details :

Key	Value
Comprehension	MCQ

प्रारूप निवेश निर्णयों के सही स्पष्टीकरण की पहचान करें :

- (1) यह वित्त जुटाने के लिए उद्यम के लिए उपलब्ध सभी अनुमानित स्रोतों का सारांश देता है
- (2) यह इस बात से संबंधित है कि उद्यम के धन को विभिन्न संपत्तियों में कैसे निवेश किया जाता है
- (3) यह अनुमानित शुद्ध लाभ की गणना है
- (4) यह उद्यम के पास उपलब्ध परियोजनाओं की नकदी को दर्शाता है

Options :

- 212807131285. 1
- 212807131286. 2
- 212807131287. 3
- 212807131288. 4

Question Number : 558 Question Id : 21280732823 Question Type : MCQ Option Shuffling : No Is Question Mandatory : No Calculator : None
Response Time : N.A Think Time : N.A Minimum Instruction Time : 0

Correct Marks : 5 Wrong Marks : 1

Question Key Details :

Key	Value
Comprehension	MCQ

The document should be in written form and duly signed by the partners, stamped and registered.
Identify the document.

- (1) Memorandum of Association
- (2) Common seal
- (3) Articles of Association
- (4) Partnership deed

Options :

- 212807131289. 1
- 212807131290. 2
- 212807131291. 3
- 212807131292. 4

Question Number : 558 Question Id : 21280732823 Question Type : MCQ Option Shuffling : No Is Question Mandatory : No Calculator : None
Response Time : N.A Think Time : N.A Minimum Instruction Time : 0

Correct Marks : 5 Wrong Marks : 1

Question Key Details :

Key	Value
Comprehension	MCQ

एक दस्तावेज लिखित रूप में विधिवत रूप से साझेदारों द्वारा हस्ताक्षरित, मुद्रांकित और पंजीकृत होता है। दस्तावेज की पहचान करें।

- (1) संस्था के बहिर्नियम
- (2) निगम मुद्रा
- (3) संस्था के अंतर्नियम
- (4) भागीदारी विलेख

Options :

212807131289. 1
212807131290. 2
212807131291. 3
212807131292. 4

Question Number : 559 Question Id : 21280732824 Question Type : MCQ Option Shuffling : No Is Question Mandatory : No Calculator : None
Response Time : N.A Think Time : N.A Minimum Instruction Time : 0

Correct Marks : 5 Wrong Marks : 1

Question Key Details :

Key	Value
Comprehension	MCQ

A Private Company is :

- (1) A voluntary association of a person formed for same common object.
- (2) An organisation controlled by Hindu Law
- (3) Which has a minimum of two and a maximum of fifty members excluding its past and present employees
- (4) Has minimum seven people to commence with no upper limit to membership

Options :

212807131293. 1
212807131294. 2
212807131295. 3
212807131296. 4

Question Number : 559 Question Id : 21280732824 Question Type : MCQ Option Shuffling : No Is Question Mandatory : No Calculator : None
Response Time : N.A Think Time : N.A Minimum Instruction Time : 0

Correct Marks : 5 Wrong Marks : 1

Question Key Details :

Key	Value
Comprehension	MCQ

एक निजी कंपनी है :

- (1) व्यक्तियों का एक ऐच्छिक संगठन, जिसका निर्माण एक सामान्य उद्देश्य के लिए हुआ है।
- (2) एक कंपनी का निर्माण विधि द्वारा किया गया है। यद्यपि उसका न तो कोई ढांचा है और न ही कोई विवेक।
- (3) उसके विगत और वर्तमान के कर्मचारियों को छोड़कर उसमें न्यूनतम दो और अधिकतम पचास सदस्य होने चाहिए।
- (4) कंपनी शुरू करने के लिए न्यूनतम सात लोगों की आवश्यकता होती है तथा सदस्यता के लिए कोई ऊपरी सीमा का निर्धारण नहीं होता।

Options :

212807131293. 1
212807131294. 2
212807131295. 3
212807131296. 4

Question Number : 560 Question Id : 21280732825 Question Type : MCQ Option Shuffling : No Is Question Mandatory : No Calculator : None
Response Time : N.A Think Time : N.A Minimum Instruction Time : 0

Correct Marks : 5 Wrong Marks : 1

Question Key Details :

Key	Value
Comprehension	MCQ

A detailed plan describing, planning details that are needed by management but may not be of interest to external stakeholders. The above lines describe :

- (1) Elevator pitch
- (2) An internal operation plan
- (3) A written presentation for external stock holders
- (4) A pitch deck with oral narrative

Options :

- 212807131297. 1
- 212807131298. 2
- 212807131299. 3
- 212807131300. 4

Question Number : 560 Question Id : 21280732825 Question Type : MCQ Option Shuffling : No Is Question Mandatory : No Calculator : None
Response Time : N.A Think Time : N.A Minimum Instruction Time : 0

Correct Marks : 5 Wrong Marks : 1

Question Key Details :

Key	Value
Comprehension	MCQ

एक विस्तृत योजना जो कि नियोजन का विस्तृत विवरण देती है तथा जिसकी प्रबंधन को आवश्यकता होती है, परंतु बाह्य हितधारकों के लिए शायद महत्व न रखता हो। उपर्युक्त कथन निम्नलिखित में से कौन से शब्द को सबसे अच्छा वर्णित करता है?

- (1) एलिवेटर पिच
- (2) एक आंतरिक क्रियाशील योजना
- (3) बाहरी हितधारकों की लिखित प्रस्तुति
- (4) मौखिक कथा के साथ एक पिच डिक

Options :

- 212807131297. 1
- 212807131298. 2
- 212807131299. 3
- 212807131300. 4

Question Number : 561 Question Id : 21280732826 Question Type : MCQ Option Shuffling : No Is Question Mandatory : No Calculator : None
Response Time : N.A Think Time : N.A Minimum Instruction Time : 0

Correct Marks : 5 Wrong Marks : 1

Question Key Details :

Key	Value
Comprehension	MCQ

Which one of the following items is not the element in the Innovation process ?

- (1) Analytical Planning
- (2) Organizing of Resources
- (3) Destruction of Ideas
- (4) Implementation of Plans

Options :

- 212807131301. 1
- 212807131302. 2

212807131303. 3
212807131304. 4

Question Number : 561 Question Id : 21280732826 Question Type : MCQ Option Shuffling : No Is Question Mandatory : No Calculator : None
Response Time : N.A Think Time : N.A Minimum Instruction Time : 0
Correct Marks : 5 Wrong Marks : 1

Question Key Details :

Key	Value
Comprehension	MCQ

निम्नलिखित में से कौन-सा विषय नवाचार प्रक्रिया का तत्व नहीं है ?

- (1) वैश्लेषिक नियोजन
- (2) संसाधनों का संयोजन
- (3) विचारों का विनाश
- (4) योजनाओं का कार्यान्वयन

Options :

212807131301. 1
212807131302. 2
212807131303. 3
212807131304. 4

Question Number : 562 Question Id : 21280732827 Question Type : MCQ Option Shuffling : No Is Question Mandatory : No Calculator : None
Response Time : N.A Think Time : N.A Minimum Instruction Time : 0
Correct Marks : 5 Wrong Marks : 1

Question Key Details :

Key	Value
Comprehension	MCQ

Ways to spot trends does not include :

- (1) Read trends
- (2) Talk trends
- (3) Think trends
- (4) Act trends

Options :

212807131305. 1
212807131306. 2
212807131307. 3
212807131308. 4

Question Number : 562 Question Id : 21280732827 Question Type : MCQ Option Shuffling : No Is Question Mandatory : No Calculator : None
Response Time : N.A Think Time : N.A Minimum Instruction Time : 0
Correct Marks : 5 Wrong Marks : 1

Question Key Details :

Key	Value
Comprehension	MCQ

प्रवृत्तियों को चिह्नित करने के तरीकों में क्या समावेशित नहीं है ?

- (1) पढ़ने की प्रवृत्तियाँ/प्रचलन
- (2) बोलने की प्रवृत्तियाँ/प्रचलन
- (3) सोचने या विचार करने की प्रवृत्तियाँ/प्रचलन
- (4) क्रिया/कार्य करने की प्रवृत्तियाँ/प्रचलन

Options :

212807131305. 1
212807131306. 2
212807131307. 3

Question Number : 563 Question Id : 21280732828 Question Type : MCQ Option Shuffling : No Is Question Mandatory : No Calculator : None
Response Time : N.A Think Time : N.A Minimum Instruction Time : 0

Correct Marks : 5 Wrong Marks : 1

Question Key Details :

Key	Value
Comprehension	MCQ

An airline is planning to expend over the next 5 years. As per the PESTEL factors Engine efficiency of the new aircraft being planned will come under :

- (1) Political factor
- (2) Economic factor
- (3) Social factor
- (4) Technological factor

Options :

212807131309. 1

212807131310. 2

212807131311. 3

212807131312. 4

Question Number : 563 Question Id : 21280732828 Question Type : MCQ Option Shuffling : No Is Question Mandatory : No Calculator : None
Response Time : N.A Think Time : N.A Minimum Instruction Time : 0

Correct Marks : 5 Wrong Marks : 1

Question Key Details :

Key	Value
Comprehension	MCQ

एक हवाई-जहाज कंपनी अगले पाँच वर्षों में व्यय करने की योजना बना रही है। पेस्टल कारकों की इंजन दक्षता के अनुसार नए विमानों की योजना किसके अंतर्गत आएगी ?

- (1) राजनीतिक कारक
- (2) आर्थिक कारक
- (3) सामाजिक कारक
- (4) तकनीकी कारक

Options :

212807131309. 1

212807131310. 2

212807131311. 3

212807131312. 4

Question Number : 564 Question Id : 21280732829 Question Type : MCQ Option Shuffling : No Is Question Mandatory : No Calculator : None
Response Time : N.A Think Time : N.A Minimum Instruction Time : 0

Correct Marks : 5 Wrong Marks : 1

Question Key Details :

Key	Value
Comprehension	MCQ

Formulation of strategies and policies is a part of :

- (1) Elements of a business opportunity
- (2) Importance of environment
- (3) Problem Identification
- (4) Factors for sensing opportunities

Options :

212807131313. 1

212807131314. 2

212807131315. 3
212807131316. 4

Question Number : 564 Question Id : 21280732829 Question Type : MCQ Option Shuffling : No Is Question Mandatory : No Calculator : None
Response Time : N.A Think Time : N.A Minimum Instruction Time : 0
Correct Marks : 5 Wrong Marks : 1

Question Key Details :

Key	Value
Comprehension	MCQ

रणीनीतियों और नीतियों का निरूपण एक हिस्सा है :

- (1) व्यवसाय के अवसरों के तत्व
- (2) पर्यावरण का महत्व
- (3) समस्या की पहचान
- (4) संवेदन अवसरों के कारक

Options :

212807131313. 1
212807131314. 2
212807131315. 3
212807131316. 4

Question Number : 565 Question Id : 21280732830 Question Type : MCQ Option Shuffling : No Is Question Mandatory : No Calculator : None
Response Time : N.A Think Time : N.A Minimum Instruction Time : 0
Correct Marks : 5 Wrong Marks : 1

Question Key Details :

Key	Value
Comprehension	MCQ

Arrange the following in sequence to exploring opportunities in environment.

- (A) Creativity and ideas
- (B) Innovation and product
- (C) Opportunity spotting
- (D) Project Business

Choose the correct answer from the options given below :

- (1) (A), (B), (C), (D)
- (2) (C), (A), (B), (D)
- (3) (B), (C), (A), (D)
- (4) (A), (C), (D), (B)

Options :

212807131317. 1
212807131318. 2
212807131319. 3
212807131320. 4

Question Number : 565 Question Id : 21280732830 Question Type : MCQ Option Shuffling : No Is Question Mandatory : No Calculator : None
Response Time : N.A Think Time : N.A Minimum Instruction Time : 0
Correct Marks : 5 Wrong Marks : 1

Question Key Details :

Key	Value
Comprehension	MCQ

पर्यावरण में अवसरों की खोज के क्रम में निम्नलिखित को व्यवस्थित करें।

- (A) सर्जनात्मकता और विचार
- (B) नवाचार और उत्पाद
- (C) अवसर का अन्वेषण
- (D) प्रकल्प व्यापार

नीचे दिए गए विकल्पों में से सही उत्तर का चयन कीजिए :

- (1) (A), (B), (C), (D)
- (2) (C), (A), (B), (D)
- (3) (B), (C), (A), (D)
- (4) (A), (C), (D), (B)

Options :

- 212807131317. 1
- 212807131318. 2
- 212807131319. 3
- 212807131320. 4

Question Number : 566 Question Id : 21280732831 Question Type : MCQ Option Shuffling : No Is Question Mandatory : No Calculator : None
Response Time : N.A Think Time : N.A Minimum Instruction Time : 0

Correct Marks : 5 Wrong Marks : 1

Question Key Details :

Key	Value
Comprehension	MCQ

Which of the following constitute internal analysis while scanning the environment ?

- (A) Strengths
- (B) Weaknesses
- (C) Opportunities
- (D) Threats
- (E) Legal environment

Choose the correct answer from the options given below :

- (1) (A) and (B) only
- (2) (B) and (C) only
- (3) (C) and (D) only
- (4) (D) and (E) only

Options :

- 212807131321. 1
- 212807131322. 2
- 212807131323. 3
- 212807131324. 4

Question Number : 566 Question Id : 21280732831 Question Type : MCQ Option Shuffling : No Is Question Mandatory : No Calculator : None
Response Time : N.A Think Time : N.A Minimum Instruction Time : 0

Correct Marks : 5 Wrong Marks : 1

Question Key Details :

Key	Value
Comprehension	MCQ

वातावरण के सूक्ष्म दर्शन के लिए निम्नलिखित में से कौन से कारण आंतरिक विश्लेषण का गठन करते हैं?

- (A) क्षमता
- (B) निर्बलता
- (C) अवसर
- (D) खतरा
- (E) वैधानिक वातावरण

नीचे दिए गए विकल्पों में से सही उत्तर का चयन कीजिए :

- (1) केवल (A) और (B)
- (2) केवल (B) और (C)
- (3) केवल (C) और (D)
- (4) केवल (D) और (E)

Options :

- 212807131321. 1
- 212807131322. 2
- 212807131323. 3
- 212807131324. 4

Question Number : 567 Question Id : 21280732832 Question Type : MCQ Option Shuffling : No Is Question Mandatory : No Calculator : None Response Time : N.A Think Time : N.A Minimum Instruction Time : 0

Correct Marks : 5 Wrong Marks : 1

Question Key Details :

Key	Value
Comprehension	MCQ

These are the privileges to a private company :

- (A) Only 2 members are required to form
- (B) Only 2 directors are required to constitute the quorum
- (C) Shares can be transferred without consulting members
- (D) They can start business immediately after incorporation

Choose the correct answer from the options given below :

- (1) (A), (B) and (C) only
- (2) (B), (C) and (D) only
- (3) (A), (C) and (D) only
- (4) (A), (B) and (D) only

Options :

- 212807131325. 1
- 212807131326. 2
- 212807131327. 3
- 212807131328. 4

Question Number : 567 Question Id : 21280732832 Question Type : MCQ Option Shuffling : No Is Question Mandatory : No Calculator : None Response Time : N.A Think Time : N.A Minimum Instruction Time : 0

Correct Marks : 5 Wrong Marks : 1

Question Key Details :

Key	Value
Comprehension	MCQ

निजी कंपनी के विशेषाधिकार ये हैं :

- (A) निर्माण के लिए केवल दो व्यक्तियों की आवश्यकता होती है
- (B) गणपूर्ति के निर्माण के लिए केवल दो निर्देशकों की आवश्यकता होती है
- (C) शेयरों का हस्तांतरण हो सकता है
- (D) समावेश के तुरंत बाद व्यापार का प्रारंभ किया जा सकता है

नीचे दिए गए विकल्पों में से सही उत्तर का चयन कीजिए :

- (1) केवल (A), (B) और (C)
- (2) केवल (B), (C) और (D)
- (3) केवल (A), (C) और (D)
- (4) केवल (A), (B) और (D)

Options :

- 212807131325. 1
- 212807131326. 2
- 212807131327. 3
- 212807131328. 4

Question Number : 568 Question Id : 21280732833 Question Type : MCQ Option Shuffling : No Is Question Mandatory : No Calculator : None
Response Time : N.A Think Time : N.A Minimum Instruction Time : 0
Correct Marks : 5 Wrong Marks : 1

Question Key Details :

Key	Value
Comprehension	MCQ

Match List - I with List - II.

List - I

(A) Conglomerate

(B) Horizontal Merger

(C) Market Extension Merger

(D) Vertical Merger

List - II

(I) A merger occurring between companies in the same industry

(II) It takes place between 2 companies that deal in same products in separate market

(III) A merger between firms that are involved in totally unrelated business activity

(IV) A merger between two companies producing different goods for one specific finished products

Choose the correct answer from the options given below :

- (1) (A)-(IV), (B)-(II), (C)-(I), (D)-(III)
- (2) (A)-(II), (B)-(I), (C)-(IV), (D)-(III)
- (3) (A)-(III), (B)-(I), (C)-(II), (D)-(IV)
- (4) (A)-(I), (B)-(II), (C)-(III), (D)-(IV)

Options :

- 212807131329. 1
- 212807131330. 2
- 212807131331. 3
- 212807131332. 4

Question Number : 568 Question Id : 21280732833 Question Type : MCQ Option Shuffling : No Is Question Mandatory : No Calculator : None
Response Time : N.A Think Time : N.A Minimum Instruction Time : 0
Correct Marks : 5 Wrong Marks : 1

Question Key Details :

Key	Value
Comprehension	MCQ

सूची-I से सूची-II का मिलान कीजिए:

सूची-I

- (A) संगुटिका (समूह)
 (B) क्षेत्रीय विलयन
 (C) बाजार विस्तार विलयन
 (D) लम्बवत विलयन

सूची-II

- (I) एक ही उद्योग में कंपनियों के मध्य होने वाला विलयन
 (II) दो कंपनी जो एक ही उत्पाद में विभिन्न बाजारों में व्यवहार करती है
 (III) दो ऐसी कंपनियों का विलयन जो असंबंधित व्यापारिक क्रियाओं में व्यवहार करती है
 (IV) एक विशिष्ट निर्मित उत्पाद के लिए विभिन्न वस्तुओं का उत्पादन करने वाली दो कंपनियों के मध्यम विलयन

नीचे दिए गए विकल्पों में से **सही उत्तर** का चयन कीजिए :

- (1) (A)-(IV), (B)-(II), (C)-(I), (D)-(III)
 (2) (A)-(II), (B)-(I), (C)-(IV), (D)-(III)
 (3) (A)-(III), (B)-(I), (C)-(II), (D)-(IV)
 (4) (A)-(I), (B)-(II), (C)-(III), (D)-(IV)

Options :

212807131329. 1
 212807131330. 2
 212807131331. 3
 212807131332. 4

Question Number : 569 Question Id : 21280732834 Question Type : MCQ Option Shuffling : No Is Question Mandatory : No Calculator : None Response Time : N.A Think Time : N.A Minimum Instruction Time : 0

Correct Marks : 5 Wrong Marks : 1

Question Key Details :

Key	Value
Comprehension	MCQ

Which of the following are the external expansion of the firm.

- (A) Mergers
 (B) Franchising
 (C) Initial public offer
 (D) Acquisition
 (E) Internal Expansion

Choose the correct answer from the options given below :

- (1) (A), (B) and (E) only
 (2) (B), (C) and (E) only
 (3) (A), (B) and (C) only
 (4) (A), (B) and (D) only

Options :

212807131333. 1
 212807131334. 2
 212807131335. 3
 212807131336. 4

Question Number : 569 Question Id : 21280732834 Question Type : MCQ Option Shuffling : No Is Question Mandatory : No Calculator : None Response Time : N.A Think Time : N.A Minimum Instruction Time : 0

Correct Marks : 5 Wrong Marks : 1

Question Key Details :

Key	Value
Comprehension	MCQ

निम्नलिखित में से कौन से कंपनी के बाह्य (बाहरी) विस्तार हैं।

- (A) विलयन
- (B) फ्रैंचाइजिंग
- (C) प्रारंभिक सार्वजनिक प्रस्ताव
- (D) अधिग्रहण
- (E) आंतरिक विस्तार

नीचे दिए गए विकल्पों में से सही उत्तर का चयन कीजिए :

- (1) केवल (A), (B) और (E)
- (2) केवल (B), (C) और (E)
- (3) केवल (A), (B) और (C)
- (4) केवल (A), (B) और (D)

Options :

- 212807131333. 1
- 212807131334. 2
- 212807131335. 3
- 212807131336. 4

Question Number : 570 Question Id : 21280732835 Question Type : MCQ Option Shuffling : No Is Question Mandatory : No Calculator : None Response Time : N.A Think Time : N.A Minimum Instruction Time : 0

Correct Marks : 5 Wrong Marks : 1

Question Key Details :

Key	Value
Comprehension	MCQ

Which of the following are the components of sales strategy.

- (A) Product placement
- (B) Core selling strategies
- (C) Testimonials
- (D) Price
- (E) Promotion

Choose the correct answer from the options given below :

- (1) (A), (B), (C) and (D) only
- (2) (A), (C), (D) and (E) only
- (3) (A), (B), (C) and (E) only
- (4) (B), (C), (D) and (E) only

Options :

- 212807131337. 1
- 212807131338. 2
- 212807131339. 3
- 212807131340. 4

Question Number : 570 Question Id : 21280732835 Question Type : MCQ Option Shuffling : No Is Question Mandatory : No Calculator : None Response Time : N.A Think Time : N.A Minimum Instruction Time : 0

Correct Marks : 5 Wrong Marks : 1

Question Key Details :

Key	Value
Comprehension	MCQ

निम्नलिखित में से कौन विक्रय रणनीति के घटक हैं।

- (A) उत्पाद नियोजन/स्थानन
- (B) मुख्य विक्रय रणनीतियाँ
- (C) प्रशंसा पत्र
- (D) कीमत
- (E) प्रचार

नीचे दिए गए विकल्पों में से सही उत्तर का चयन कीजिए :

- (1) केवल (A), (B), (C) और (D)
- (2) केवल (A), (C), (D) और (E)
- (3) केवल (A), (B), (C) और (E)
- (4) केवल (B), (C), (D) और (E)

Options :

- 212807131337. 1
- 212807131338. 2
- 212807131339. 3
- 212807131340. 4

Question Number : 571 Question Id : 21280732836 Question Type : MCQ Option Shuffling : No Is Question Mandatory : No Calculator : None Response Time : N.A Think Time : N.A Minimum Instruction Time : 0

Correct Marks : 5 Wrong Marks : 1

Question Key Details :

Key	Value
Comprehension	MCQ

Partnership is a relationship between persons who have agreed to share profits of a business.

- (A) Carried on by all
- (B) Any of them acting for all
- (C) Carried on by a partner only
- (D) Carried on by all partners all the time
- (E) Carried on by the nominated partner

Choose the correct answer from the options given below :

- (1) (A) and (B) only
- (2) (A), (B) and (E) only
- (3) (A) only
- (4) (B), (C) and (D) only

Options :

- 212807131341. 1
- 212807131342. 2
- 212807131343. 3
- 212807131344. 4

Question Number : 571 Question Id : 21280732836 Question Type : MCQ Option Shuffling : No Is Question Mandatory : No Calculator : None Response Time : N.A Think Time : N.A Minimum Instruction Time : 0

Correct Marks : 5 Wrong Marks : 1

Question Key Details :

Key	Value
Comprehension	MCQ

साझेदारी उन व्यक्तियों के मध्य संबंध है जिन्होंने अपने व्यवसाय में लाभ को साझा करने के लिए सहमति प्रदान की है।

- (A) सभी द्वारा किया जाता है
- (B) उनमें से कोई भी सभी के लिए कार्य करता है
- (C) केवल एक भागीदारी/साझेदार द्वारा किया जाता है
- (D) हर समय सभी साझेदारों द्वारा किया जाता है
- (E) नामांकित/नामनिर्देशित साझेदार द्वारा किया जाता है

नीचे दिए गए विकल्पों में से सही उत्तर का चयन कीजिए :

- (1) केवल (A) और (B)
- (2) केवल (A), (B) और (E)
- (3) केवल (A)
- (4) केवल (B), (C) और (D)

Options :

- 212807131341. 1
- 212807131342. 2
- 212807131343. 3
- 212807131344. 4

Question Number : 572 Question Id : 21280732837 Question Type : MCQ Option Shuffling : No Is Question Mandatory : No Calculator : None Response Time : N.A Think Time : N.A Minimum Instruction Time : 0

Correct Marks : 5 Wrong Marks : 1

Question Key Details :

Key	Value
Comprehension	MCQ

Match List - I with List - II.

List - I

- (A) Private placement
- (B) Rights issue
- (C) Offer to employee
- (D) Public issue

List - II

- (I) Used to reduce labour turn over
- (II) Requires to issue a prospectus
- (III) Depends on institutional investors
- (IV) Deals with existing shareholders only

Choose the correct answer from the options given below :

- (1) (A)-(III), (B)-(I), (C)-(IV), (D)-(II)
- (2) (A)-(III), (B)-(II), (C)-(IV), (D)-(I)
- (3) (A)-(II), (B)-(IV), (C)-(I), (D)-(III)
- (4) (A)-(III), (B)-(IV), (C)-(I), (D)-(II)

Options :

- 212807131345. 1
- 212807131346. 2
- 212807131347. 3
- 212807131348. 4

Question Number : 572 Question Id : 21280732837 Question Type : MCQ Option Shuffling : No Is Question Mandatory : No Calculator : None Response Time : N.A Think Time : N.A Minimum Instruction Time : 0

Correct Marks : 5 Wrong Marks : 1

Question Key Details :

Key	Value
-----	-------

सूची-I से सूची-II का मिलान कीजिए:

सूची-I

- (A) निजी नियोजन/स्थानन
(B) राइट इशू
(C) कर्मचारी को प्रस्ताव
(D) पब्लिक इशू

सूची-II

- (I) श्रमिकों की कुल बिक्री को घटाना
(II) प्रास्पेक्टस जारी करने की आवश्यकता
(III) संस्थागत निवेशकों पर आधारित
(IV) मौजूदा हितधारकों के साथ व्यवहार करता है

नीचे दिए गए विकल्पों में से सही उत्तर का चयन कीजिए :

- (1) (A)-(III), (B)-(I), (C)-(IV), (D)-(II)
(2) (A)-(III), (B)-(II), (C)-(IV), (D)-(I)
(3) (A)-(II), (B)-(IV), (C)-(I), (D)-(III)
(4) (A)-(III), (B)-(IV), (C)-(I), (D)-(II)

Options :

212807131345. 1
212807131346. 2
212807131347. 3
212807131348. 4

Question Number : 573 Question Id : 21280732838 Question Type : MCQ Option Shuffling : No Is Question Mandatory : No Calculator : None Response Time : N.A Think Time : N.A Minimum Instruction Time : 0

Correct Marks : 5 Wrong Marks : 1

Question Key Details :

Key	Value
Comprehension	MCQ

Match List - I with List - II.

List - I

- (A) Force acquisition
(B) Purchasing company becomes subsidiary of purchased company
(C) Private company taking over a public company
(D) Cordial acquisition

List - II

- (I) Back flip Acquisition
(II) Reverse Acquisition
(III) Friendly Acquisition
(IV) Hostile Acquisition

Choose the correct answer from the options given below :

- (1) (A)-(III), (B)-(IV), (C)-(I), (D)-(II)
(2) (A)-(IV), (B)-(III), (C)-(II), (D)-(I)
(3) (A)-(I), (B)-(II), (C)-(III), (D)-(IV)
(4) (A)-(IV), (B)-(I), (C)-(II), (D)-(III)

Options :

212807131349. 1
212807131350. 2
212807131351. 3
212807131352. 4

Question Number : 573 Question Id : 21280732838 Question Type : MCQ Option Shuffling : No Is Question Mandatory : No Calculator : None Response Time : N.A Think Time : N.A Minimum Instruction Time : 0

Correct Marks : 5 Wrong Marks : 1

Question Key Details :

Key	Value

सूची-I से सूची-II का मिलान कीजिए:

सूची-I

- (A) बलपूर्वक अधिग्रहण
 (B) क्रय कंपनी खरीदी गई कंपनी की सहायक कंपनी बन जाती है
 (C) निजी कंपनी का सार्वजनिक/सरकारी कंपनी पर अधिग्रहण
 (D) स्नेहपूर्ण अधिग्रहण

सूची-II

- (I) बैक फ्लिप अधिग्रहण
 (II) विपरीत अधिग्रहण
 (III) मित्रतापूर्ण अधिग्रहण
 (IV) शत्रुतापूर्ण अधिग्रहण

नीचे दिए गए विकल्पों में से सही उत्तर का चयन कीजिए :

- (1) (A)-(III), (B)-(IV), (C)-(I), (D)-(II)
 (2) (A)-(IV), (B)-(III), (C)-(II), (D)-(I)
 (3) (A)-(I), (B)-(II), (C)-(III), (D)-(IV)
 (4) (A)-(IV), (B)-(I), (C)-(II), (D)-(III)

Options :

212807131349. 1
 212807131350. 2
 212807131351. 3
 212807131352. 4

Question Number : 574 Question Id : 21280732839 Question Type : MCQ Option Shuffling : No Is Question Mandatory : No Calculator : None
 Response Time : N.A Think Time : N.A Minimum Instruction Time : 0

Correct Marks : 5 Wrong Marks : 1

Question Key Details :

Key	Value
Comprehension	MCQ

Match List - I with List - II.

List - I

- (A) Product
 (B) Price
 (C) Place
 (D) promotion

List - II

- (I) Distribution channel
 (II) Popularity about product
 (III) Brands, packing, labelling
 (IV) Skimming price, Penetration Price

Choose the correct answer from the options given below :

- (1) (A)-(III), (B)-(I), (C)-(IV), (D)-(II)
 (2) (A)-(III), (B)-(IV), (C)-(I), (D)-(II)
 (3) (A)-(II), (B)-(IV), (C)-(I), (D)-(III)
 (4) (A)-(IV), (B)-(III), (C)-(II), (D)-(I)

Options :

212807131353. 1
 212807131354. 2
 212807131355. 3
 212807131356. 4

Question Number : 574 Question Id : 21280732839 Question Type : MCQ Option Shuffling : No Is Question Mandatory : No Calculator : None
 Response Time : N.A Think Time : N.A Minimum Instruction Time : 0

Correct Marks : 5 Wrong Marks : 1

Question Key Details :

Key	Value
Comprehension	MCQ

सूची-I से सूची-II का मिलान कीजिए:

सूची-I	सूची-II
(A) उत्पाद	(I) वितरण का माध्यम
(B) मूल्य	(II) उत्पाद की लोकप्रियता
(C) स्थान	(III) ब्रांड, पैकिंग, लेबलिंग
(D) प्रचार	(IV) मूल्य मंथन, अंतर्वेधन मूल्य

नीचे दिए गए विकल्पों में से सही उत्तर का चयन कीजिए :

- (1) (A)-(III), (B)-(I), (C)-(IV), (D)-(II)
- (2) (A)-(III), (B)-(IV), (C)-(I), (D)-(II)
- (3) (A)-(II), (B)-(IV), (C)-(I), (D)-(III)
- (4) (A)-(IV), (B)-(III), (C)-(II), (D)-(I)

Options :

212807131353. 1
212807131354. 2
212807131355. 3
212807131356. 4

Question Number : 575 Question Id : 21280732840 Question Type : MCQ Option Shuffling : No Is Question Mandatory : No Calculator : None
Response Time : N.A Think Time : N.A Minimum Instruction Time : 0

Correct Marks : 5 Wrong Marks : 1

Question Key Details :

Key	Value
Comprehension	MCQ

Match List - I with List - II.

List - I	List - II
(A) Producer → Consumer	(I) One level
(B) Producer → Retailer → Consumer	(II) Three level
(C) Producer → Wholesaler → Retailer → Consumer	(III) Direct level
(D) Producer → Agent → Wholesaler → Consumer → Retailer	(IV) Two level

Choose the correct answer from the options given below :

- (1) (A)-(III), (B)-(I), (C)-(IV), (D)-(II)
- (2) (A)-(III), (B)-(IV), (C)-(I), (D)-(II)
- (3) (A)-(III), (B)-(I), (C)-(II), (D)-(IV)
- (4) (A)-(III), (B)-(IV), (C)-(II), (D)-(I)

Options :

212807131357. 1
212807131358. 2
212807131359. 3
212807131360. 4

Question Number : 575 Question Id : 21280732840 Question Type : MCQ Option Shuffling : No Is Question Mandatory : No Calculator : None
Response Time : N.A Think Time : N.A Minimum Instruction Time : 0

Correct Marks : 5 Wrong Marks : 1

Question Key Details :

Key	Value
Comprehension	MCQ

सूची-I से सूची-II का मिलान कीजिए:

सूची-I

सूची-II

- | | |
|---|----------------------|
| (A) उत्पादक → उपभोक्ता | (I) प्रथम स्तर |
| (B) उत्पादक → खुदरा व्यापारी → उपभोक्ता | (II) तीसरा स्तर |
| (C) उत्पादक → थोक विक्रेता → खुदरा व्यापारी → उपभोक्ता | (III) प्रत्यक्ष स्तर |
| (D) उत्पादक → अभिकर्ता → थोक विक्रेता → उपभोक्ता → खुदरा व्यापारी | (IV) दूसरा स्तर |

नीचे दिए गए विकल्पों में से सही उत्तर का चयन कीजिए :

- (1) (A)-(III), (B)-(I), (C)-(IV), (D)-(II)
- (2) (A)-(III), (B)-(IV), (C)-(I), (D)-(II)
- (3) (A)-(III), (B)-(I), (C)-(II), (D)-(IV)
- (4) (A)-(III), (B)-(IV), (C)-(II), (D)-(I)

Options :

212807131357. 1
212807131358. 2
212807131359. 3
212807131360. 4

Sub-Section Number :	2
Sub-Section Id :	2128072518
Question Shuffling Allowed :	No
Is Section Default? :	null

Question Number : 576 Question Id : 21280732841 Question Type : MCQ Option Shuffling : No Is Question Mandatory : No Calculator : None
Response Time : N.A Think Time : N.A Minimum Instruction Time : 0
Correct Marks : 5 Wrong Marks : 1
Question Key Details :

Key	Value
Comprehension	Compl

Case Study

Vishal started a south Indian restaurant in old Delhi region. He invested 10 lakhs of his own and borrowed ₹ 15 lakh from SBH Bank @ 10% p.a. The sales revenue for the first year was ₹ 5 lakhs while the cost of goods sold was ₹ 7 lakh. Vishal realised that earning rewards is a must for a business to survive for long. In order to increase his sales he focused on customers satisfaction and regularly collected customers feedback. He also advertised about his restaurant in the local daily and offered discount coupons to customers who placed orders above ₹ 2000. This effort enabled Vishal to increase his sales revenue to ₹ 15,00,000 with COGS at ₹ 10,00,000. Today Vishal has expanded his business by opening outlets in other parts of Delhi on his own.

Vishal's vision for the future is that he wants to be in business for himself but not by himself. He aspires to give exclusive rights of his trade marked product to independent retailer in return for their payment of royalties and conformance to standardized operating procedures.

Identify the most suitable channel of distribution for Vishal's restaurant if he focuses only on Dine-in facility and avoids home delivery.

- (1) Zero level
- (2) One level
- (3) Two level
- (4) Three level

Options :

212807131361. 1

212807131362. 2
212807131363. 3
212807131364. 4

Question Number : 576 Question Id : 21280732841 Question Type : MCQ Option Shuffling : No Is Question Mandatory : No Calculator : None
Response Time : N.A Think Time : N.A Minimum Instruction Time : 0

Correct Marks : 5 Wrong Marks : 1

Question Key Details :

Key	Value
Comprehension	Comp1

समस्या/निरक्षण अध्ययन

विशाल ने पुरानी दिल्ली क्षेत्र में एक दक्षिण भारतीय रेस्तरां शुरू किया। उन्होंने अपने स्वयं के ₹ 10 लाख का निवेश किया और एस बी एच बैंक से 10% पी.ए. पर ₹ 15 लाख उधार लिया। पहले वर्ष के लिए बिक्री राजस्व ₹ 5 लाख था जबकि बेचे गए माल की लागत ₹ 7 लाख थी। विशाल ने महसूस किया कि किसी व्यवसाय को लंबे समय तक जीवित रखने के लिए पुरस्कार/प्रशंसा अर्जित करना आवश्यक है। अपनी बिक्री बढ़ाने के लिए उन्होंने ग्राहकों की संतुष्टि पर ध्यान केंद्रित किया और नियमित रूप से ग्राहकों की प्रतिक्रिया एकत्र की। उन्होंने स्थानीय दैनिक में अपने रेस्तरां के बारे में विज्ञापन भी दिया और ₹ 2000 से ऊपर के ऑर्डर देने वाले ग्राहकों को डिस्काउंट कूपन की पेशकश की। इस प्रयास ने विशाल को ₹ 10,00,000 पर COGS के साथ अपनी बिक्री राजस्व को ₹ 15,00,000 तक बढ़ाने में सक्षम बनाया। आज विशाल ने अपने बल पर दिल्ली के अन्य भागों में आउटलेट खोलकर अपने व्यवसाय का विस्तार किया है।

भविष्य के लिए विशाल का दृष्टिकोण यह है कि वह अपने द्वारा नहीं बल्कि अपने लिए व्यवसाय करना चाहता है वह रायल्टी के भुगतान और मानकीकृत संचालन प्रक्रियाओं के अनुरूप होने के बदले में स्वतंत्र रिटेलर को अपने व्यापार चिन्हित उत्पाद के अनन्य अधिकार देने की इच्छा रखता है।

विशाल के रेस्तरां के लिए वितरण के सबसे उपयुक्त माध्यम की पहचान करें यदि वह केवल डाइन-इन सुविधा पर ध्यान केंद्रित करता है और होम डिलीवरी से बचता है।

- (1) शून्य स्तर
- (2) प्रथम स्तर
- (3) दूसरा स्तर
- (4) तीसरा स्तर

Options :

212807131361. 1
212807131362. 2
212807131363. 3
212807131364. 4

Question Number : 577 Question Id : 21280732842 Question Type : MCQ Option Shuffling : No Is Question Mandatory : No Calculator : None
Response Time : N.A Think Time : N.A Minimum Instruction Time : 0

Correct Marks : 5 Wrong Marks : 1

Question Key Details :

Key	Value
Comprehension	Comp1

Case Study

Vishal started a south Indian restaurant in old Delhi region. He invested 10 lakhs of his own and borrowed ₹ 15 lakh from SBH Bank @ 10% p.a. The sales revenue for the first year was ₹ 5 lakhs while the cost of goods sold was ₹ 7 lakh. Vishal realised that earning rewards is a must for a business to survive for long. In order to increase his sales he focused on customers satisfaction and regularly collected customers feedback. He also advertised about his restaurant in the local daily and offered discount coupons to customers who placed orders above ₹ 2000. This effort enabled Vishal to increase his sales revenue to ₹ 15,00,000 with COGS at ₹ 10,00,000. Today Vishal has expanded his business by opening outlets in other parts of Delhi on his own.

Vishal's vision for the future is that he wants to be in business for himself but not by himself. He aspires to give exclusive rights of his trade marked product to independent retailer in return for their payment of royalties and conformance to standardized operating procedures.

Identify the legal document that will bind Vishal and the independent retailer if he gives exclusive rights of his trademarked product in return for royalty.

- (1) Partnership Agreement
- (2) Rent Agreement
- (3) Franchise Agreement
- (4) Sale Agreement

Options :

212807131365. 1
212807131366. 2
212807131367. 3
212807131368. 4

Question Number : 577 Question Id : 21280732842 Question Type : MCQ Option Shuffling : No Is Question Mandatory : No Calculator : None
Response Time : N.A Think Time : N.A Minimum Instruction Time : 0

Correct Marks : 5 Wrong Marks : 1

Question Key Details :

Key	Value
Comprehension	Comp1

समस्या/निरक्षण अध्ययन

विशाल ने पुरानी दिल्ली क्षेत्र में एक दक्षिण भारतीय रेस्तरां शुरू किया। उन्होंने अपने स्वयं के ₹ 10 लाख का निवेश किया और एस बी एच बैंक से 10% पी.ए. पर ₹ 15 लाख उधार लिया। पहले वर्ष के लिए बिक्री राजस्व ₹ 5 लाख था जबकि बेचे गए माल की लागत ₹ 7 लाख थी। विशाल ने महसूस किया कि किसी व्यवसाय को लंबे समय तक जीवित रखने के लिए पुरस्कार/प्रशंसा अर्जित करना आवश्यक है। अपनी बिक्री बढ़ाने के लिए उन्होंने ग्राहकों की संतुष्टि पर ध्यान केंद्रित किया और नियमित रूप से ग्राहकों की प्रतिक्रिया एकत्र की। उन्होंने स्थानीय दैनिक में अपने रेस्तरां के बारे में विज्ञापन भी दिया और ₹ 2000 से ऊपर के ऑर्डर देने वाले ग्राहकों को डिस्काउंट कूपन की पेशकश की। इस प्रयास ने विशाल की ₹ 10,00,000 पर COGS के साथ अपनी बिक्री राजस्व को ₹ 15,00,000 तक बढ़ाने में सक्षम बनाया। आज विशाल ने अपने बल पर दिल्ली के अन्य भागों में आउटलेट खोलकर अपने व्यवसाय का विस्तार किया है।

भविष्य के लिए विशाल का दृष्टिकोण यह है कि वह अपने द्वारा नहीं बल्कि अपने लिए व्यवसाय करना चाहता है वह रायल्टी के भुगतान और मानकीकृत संचालन प्रक्रियाओं के अनुरूप होने के बदले में स्वतंत्र रिटेलर को अपने व्यापार चिन्हित उत्पाद के अनन्य अधिकार देने की इच्छा रखता है।

उन कानूनी दस्तावेज की पहचान करें जो विशाल और स्वतंत्र खुदरा विक्रेता को रायल्टी के बदले ट्रेडमार्क युक्त उत्पाद के अनन्य अधिकार देगा।

- (1) साझेदारी का समझौता
- (2) किराया समझौता
- (3) फ्रैंचाइजी समझौता
- (4) बिक्री समझौता

Options :

212807131365. 1
212807131366. 2
212807131367. 3
212807131368. 4

Question Number : 578 Question Id : 21280732843 Question Type : MCQ Option Shuffling : No Is Question Mandatory : No Calculator : None
Response Time : N.A Think Time : N.A Minimum Instruction Time : 0

Correct Marks : 5 Wrong Marks : 1

Question Key Details :

Key	Value
Comprehension	Compl

Case Study

Vishal started a south Indian restaurant in old Delhi region. He invested 10 lakhs of his own and borrowed ₹ 15 lakh from SBH Bank @ 10% p.a. The sales revenue for the first year was ₹ 5 lakhs while the cost of goods sold was ₹ 7 lakh. Vishal realised that earning rewards is a must for a business to survive for long. In order to increase his sales he focused on customers satisfaction and regularly collected customers feedback. He also advertised about his restaurant in the local daily and offered discount coupons to customers who placed orders above ₹ 2000. This effort enabled Vishal to increase his sales revenue to ₹ 15,00,000 with COGS at ₹ 10,00,000. Today Vishal has expanded his business by opening outlets in other parts of Delhi on his own.

Vishal's vision for the future is that he wants to be in business for himself but not by himself. He aspires to give exclusive rights of his trade marked product to independent retailer in return for their payment of royalties and conformance to standardized operating procedures.

Vishal aspires to give on exclusive rights of his trade marked product to independent retailer in return for their payment of royalty and conformance to standardized operating procedures in future. Identify the form of expansion from the above lives.

- (1) Internal Expansion
- (2) Franchising
- (3) Merger
- (4) Acquisition

Options :

212807131369. 1

212807131370. 2

212807131371. 3

212807131372. 4

Question Number : 578 Question Id : 21280732843 Question Type : MCQ Option Shuffling : No Is Question Mandatory : No Calculator : None
Response Time : N.A Think Time : N.A Minimum Instruction Time : 0

Correct Marks : 5 Wrong Marks : 1

Question Key Details :

Key	Value
Comprehension	Compl

समस्या/निरक्षण अध्ययन

विशाल ने पुरानी दिल्ली क्षेत्र में एक दक्षिण भारतीय रेस्तरां शुरू किया। उन्होंने अपने स्वयं के ₹ 10 लाख का निवेश किया और एस बी एच बैंक से 10% पी.ए. पर ₹ 15 लाख उधार लिया। पहले वर्ष के लिए बिक्री राजस्व ₹ 5 लाख था जबकि बेचे गए माल की लागत ₹ 7 लाख थी। विशाल ने महसूस किया कि किसी व्यवसाय को लंबे समय तक जीवित रखने के लिए पुरस्कार/प्रशंसा अर्जित करना आवश्यक है। अपनी बिक्री बढ़ाने के लिए उन्होंने ग्राहकों की संतुष्टि पर ध्यान केंद्रित किया और नियमित रूप से ग्राहकों की प्रतिक्रिया एकत्र की। उन्होंने स्थानीय दैनिक में अपने रेस्तरां के बारे में विज्ञापन भी दिया और ₹ 2000 से ऊपर के ऑर्डर देने वाले ग्राहकों को डिस्काउंट कूपन की पेशकश की। इस प्रयास ने विशाल की ₹ 10,00,000 पर COGS के साथ अपनी बिक्री राजस्व को ₹ 15,00,000 तक बढ़ाने में सक्षम बनाया। आज विशाल ने अपने बल पर दिल्ली के अन्य भागों में आउटलेट खोलकर अपने व्यवसाय का विस्तार किया है।

भविष्य के लिए विशाल का दृष्टिकोण यह है कि वह अपने द्वारा नहीं बल्कि अपने लिए व्यवसाय करना चाहता है वह रायल्टी के भुगतान और मानकीकृत संचालन प्रक्रियाओं के अनुरूप होने के बदले में स्वतंत्र रिटेलर को अपने व्यापार चिन्हित उत्पाद के अनन्य अधिकार देने की इच्छा रखता है।

विशाल भविष्य में रायल्टी के भुगतान और मानकीकृत संचालन प्रक्रियाओं के अनुरूप होने के बदले में स्वतंत्र खुदरा विक्रेता को अपने व्यापार चिन्हित उत्पाद के अधिकार देने की इच्छा रखते हैं। उपरोक्त जीवन से विस्तार के रूप की पहचान करें।

- (1) आंतरिक विस्तार
- (2) फ्रैंचाइजिंग
- (3) विलय
- (4) अधिग्रहण

Options :

212807131369. 1
212807131370. 2
212807131371. 3
212807131372. 4

Question Number : 579 Question Id : 21280732844 Question Type : MCQ Option Shuffling : No Is Question Mandatory : No Calculator : None
Response Time : N.A Think Time : N.A Minimum Instruction Time : 0

Correct Marks : 5 Wrong Marks : 1

Question Key Details :

Key	Value
Comprehension	Comp1

Case Study

Vishal started a south Indian restaurant in old Delhi region. He invested 10 lakhs of his own and borrowed ₹ 15 lakh from SBH Bank @ 10% p.a. The sales revenue for the first year was ₹ 5 lakhs while the cost of goods sold was ₹ 7 lakh. Vishal realised that earning rewards is a must for a business to survive for long. In order to increase his sales he focused on customers satisfaction and regularly collected customers feedback. He also advertised about his restaurant in the local daily and offered discount coupons to customers who placed orders above ₹ 2000. This effort enabled Vishal to increase his sales revenue to ₹ 15,00,000 with COGS at ₹ 10,00,000. Today Vishal has expanded his business by opening outlets in other parts of Delhi on his own.

Vishal's vision for the future is that he wants to be in business for himself but not by himself. He aspires to give exclusive rights of his trade marked product to independent retailer in return for their payment of royalties and conformance to standardized operating procedures.

'At present Vishal has expanded his business by opening outlets in other parts of Delhi.' Which method of expansion has he followed.

- (1) Internal Expansion
- (2) External Expansion
- (3) Franchising
- (4) Merger

Options :

212807131373. 1
212807131374. 2
212807131375. 3
212807131376. 4

Question Number : 579 Question Id : 21280732844 Question Type : MCQ Option Shuffling : No Is Question Mandatory : No Calculator : None
Response Time : N.A Think Time : N.A Minimum Instruction Time : 0

Correct Marks : 5 Wrong Marks : 1

Question Key Details :

Key	Value
Comprehension	Comp1

समस्या/निरक्षण अध्ययन

विशाल ने पुरानी दिल्ली क्षेत्र में एक दक्षिण भारतीय रेस्तरां शुरू किया। उन्होंने अपने स्वयं के ₹ 10 लाख का निवेश किया और एस बी एच बैंक से 10% पी.ए. पर ₹ 15 लाख उधार लिया। पहले वर्ष के लिए बिक्री राजस्व ₹ 5 लाख था जबकि बेचे गए माल की लागत ₹ 7 लाख थी। विशाल ने महसूस किया कि किसी व्यवसाय को लंबे समय तक जीवित रखने के लिए पुरस्कार/प्रशंसा अर्जित करना आवश्यक है। अपनी बिक्री बढ़ाने के लिए उन्होंने ग्राहकों की संतुष्टि पर ध्यान केंद्रित किया और नियमित रूप से ग्राहकों की प्रतिक्रिया एकत्र की। उन्होंने स्थानीय दैनिक में अपने रेस्तरां के बारे में विज्ञापन भी दिया और ₹ 2000 से ऊपर के ऑर्डर देने वाले ग्राहकों को डिस्काउंट कूपन की पेशकश की। इस प्रयास ने विशाल की ₹ 10,00,000 पर COGS के साथ अपनी बिक्री राजस्व को ₹ 15,00,000 तक बढ़ाने में सक्षम बनाया। आज विशाल ने अपने बल पर दिल्ली के अन्य भागों में आउटलेट खोलकर अपने व्यवसाय का विस्तार किया है।

भविष्य के लिए विशाल का दृष्टिकोण यह है कि वह अपने द्वारा नहीं बल्कि अपने लिए व्यवसाय करना चाहता है वह रायल्टी के भुगतान और मानकीकृत संचालन प्रक्रियाओं के अनुरूप होने के बदले में स्वतंत्र रिटेलर को अपने व्यापार चिन्हित उत्पाद के अनन्य अधिकार देने की इच्छा रखता है।

विशाल ने दिल्ली के अन्य भागों में विसर्जन केन्द्र खोलकर अपने व्यवसाय को विस्तृत किया है। उसके द्वारा किस विस्तृत प्रणाली का अनुसरण किया गया है।

- (1) आंतरिक विस्तार
- (2) बाह्य विस्तार
- (3) फ्रैंचाइजिंग
- (4) विलयन

Options :

212807131373. 1
212807131374. 2
212807131375. 3
212807131376. 4

Question Number : 580 Question Id : 21280732845 Question Type : MCQ Option Shuffling : No Is Question Mandatory : No Calculator : None
Response Time : N.A Think Time : N.A Minimum Instruction Time : 0

Correct Marks : 5 Wrong Marks : 1

Question Key Details :

Key	Value
Comprehension	Comp1

Case Study

Vishal started a south Indian restaurant in old Delhi region. He invested 10 lakhs of his own and borrowed ₹ 15 lakh from SBH Bank @ 10% p.a. The sales revenue for the first year was ₹ 5 lakhs while the cost of goods sold was ₹ 7 lakh. Vishal realised that earning rewards is a must for a business to survive for long. In order to increase his sales he focused on customers satisfaction and regularly collected customers feedback. He also advertised about his restaurant in the local daily and offered discount coupons to customers who placed orders above ₹ 2000. This effort enabled Vishal to increase his sales revenue to ₹ 15,00,000 with COGS at ₹ 10,00,000. Today Vishal has expanded his business by opening outlets in other parts of Delhi on his own.

Vishal's vision for the future is that he wants to be in business for himself but not by himself. He aspires to give exclusive rights of his trade marked product to independent retailer in return for their payment of royalties and conformance to standardized operating procedures.

Calculate the Gross Margin earned by Vishal during the first year of his Business ?

- (1) Profit - 2,00,000
- (2) Loss - 2,00,000
- (3) Profit - 12,00,000
- (4) Loss - 12,00,000

Options :

- 212807131377. 1
- 212807131378. 2
- 212807131379. 3
- 212807131380. 4

Question Number : 580 Question Id : 21280732845 Question Type : MCQ Option Shuffling : No Is Question Mandatory : No Calculator : None
Response Time : N.A Think Time : N.A Minimum Instruction Time : 0

Correct Marks : 5 Wrong Marks : 1

Question Key Details :

Key	Value
Comprehension	Compl

समस्या/निरक्षण अध्ययन

विशाल ने पुरानी दिल्ली क्षेत्र में एक दक्षिण भारतीय रेस्तरां शुरू किया। उन्होंने अपने स्वयं के ₹ 10 लाख का निवेश किया और एस बी एच बैंक से 10% पी.ए. पर ₹ 15 लाख उधार लिया। पहले वर्ष के लिए बिक्री राजस्व ₹ 5 लाख था जबकि बेचे गए माल की लागत ₹ 7 लाख थी। विशाल ने महसूस किया कि किसी व्यवसाय को लंबे समय तक जीवित रखने के लिए पुरस्कार/प्रशंसा अर्जित करना आवश्यक है। अपनी बिक्री बढ़ाने के लिए उन्होंने ग्राहकों की संतुष्टि पर ध्यान केंद्रित किया और नियमित रूप से ग्राहकों की प्रतिक्रिया एकत्र की। उन्होंने स्थानीय दैनिक में अपने रेस्तरां के बारे में विज्ञापन भी दिया और ₹ 2000 से ऊपर के ऑर्डर देने वाले ग्राहकों को डिस्काउंट कूपन की पेशकश की। इस प्रयास ने विशाल की ₹ 10,00,000 पर COGS के साथ अपनी बिक्री राजस्व को ₹ 15,00,000 तक बढ़ाने में सक्षम बनाया। आज विशाल ने अपने बल पर दिल्ली के अन्य भागों में आउटलेट खोलकर अपने व्यवसाय का विस्तार किया है।

भविष्य के लिए विशाल का दृष्टिकोण यह है कि वह अपने द्वारा नहीं बल्कि अपने लिए व्यवसाय करना चाहता है वह रायल्टी के भुगतान और मानकीकृत संचालन प्रक्रियाओं के अनुरूप होने के बदले में स्वतंत्र रिटेलर को अपने व्यापार चिन्हित उत्पाद के अनन्य अधिकार देने की इच्छा रखता है।

विशाल द्वारा अपने व्यवसाय के प्रथम वर्ष में प्राप्त किए लाभ की गणना करें।

- (1) लाभ - 2,00,000
- (2) हानि - 2,00,000
- (3) लाभ - 12,00,000
- (4) हानि - 12,00,000

Options :

212807131377. 1
212807131378. 2
212807131379. 3
212807131380. 4

Sub-Section Number :	3
Sub-Section Id :	2128072519
Question Shuffling Allowed :	No
Is Section Default? :	null

Question Number : 581 Question Id : 21280732846 Question Type : MCQ Option Shuffling : No Is Question Mandatory : No Calculator : None
Response Time : N.A Think Time : N.A Minimum Instruction Time : 0

Correct Marks : 5 Wrong Marks : 1

Question Key Details :

Key	Value
Comprehension	Comp2

Case Study

Vishal started a south Indian restaurant in old Delhi region. He invested 10 lakhs of his own and borrowed ₹ 15 lakh from SBH Bank @ 10% p.a. The sales revenue for the first year was ₹ 5 lakhs while the cost of goods sold was ₹ 7 lakh. Vishal realised that earning rewards is a must for a business to survive for long. In order to increase his sales he focused on customers satisfaction and regularly collected customers feedback. He also advertised about his restaurant in the local daily and offered discount coupons to customers who placed orders above ₹ 2000. This effort enabled Vishal to increase his sales revenue to ₹ 15,00,000 with COGS at ₹ 10,00,000. Today Vishal has expanded his business by opening outlets in other parts of Delhi on his own.

Vishal's vision for the future is that he wants to be in business for himself but not by himself. He aspires to give exclusive rights of his trade marked product to independent retailer in return for their payment of royalties and conformance to standardized operating procedures.

Calculate the Net Profit/Loss earned by Vishal during the second year.

- (1) Net Profit - ₹ 5,00,000
- (2) Net Loss - ₹ 5,00,000
- (3) Net Profit - ₹ 3,50,000
- (4) Net Loss - ₹ 3,50,000

Options :

- 212807131381. 1
- 212807131382. 2
- 212807131383. 3
- 212807131384. 4

Question Number : 581 Question Id : 21280732846 Question Type : MCQ Option Shuffling : No Is Question Mandatory : No Calculator : None
Response Time : N.A Think Time : N.A Minimum Instruction Time : 0

Correct Marks : 5 Wrong Marks : 1

Question Key Details :

Key	Value
Comprehension	Comp2

समस्या/निरक्षण अध्ययन

विशाल ने पुरानी दिल्ली क्षेत्र में एक दक्षिण भारतीय रेस्तरां शुरू किया। उन्होंने अपने स्वयं के ₹ 10 लाख का निवेश किया और एस बी एच बैंक से 10% पी.ए. पर ₹ 15 लाख उधार लिया। पहले वर्ष के लिए बिक्री राजस्व ₹ 5 लाख था जबकि बेचे गए माल की लागत ₹ 7 लाख थी। विशाल ने महसूस किया कि किसी व्यवसाय को लंबे समय तक जीवित रखने के लिए पुरस्कार/प्रशंसा अर्जित करना आवश्यक है। अपनी बिक्री बढ़ाने के लिए उन्होंने ग्राहकों की संतुष्टि पर ध्यान केंद्रित किया और नियमित रूप से ग्राहकों की प्रतिक्रिया एकत्र की। उन्होंने स्थानीय दैनिक में अपने रेस्तरां के बारे में विज्ञापन भी दिया और ₹ 2000 से ऊपर के ऑर्डर देने वाले ग्राहकों को डिस्काउंट कूपन की पेशकश की। इस प्रयास ने विशाल की ₹ 10,00,000 पर COGS के साथ अपनी बिक्री राजस्व को ₹ 15,00,000 तक बढ़ाने में सक्षम बनाया। आज विशाल ने अपने बल पर दिल्ली के अन्य भागों में आउटलेट खोलकर अपने व्यवसाय का विस्तार किया है।

भविष्य के लिए विशाल का दृष्टिकोण यह है कि वह अपने द्वारा नहीं बल्कि अपने लिए व्यवसाय करना चाहता है वह रायल्टी के भुगतान और मानकीकृत संचालन प्रक्रियाओं के अनुरूप होने के बदले में स्वतंत्र रिटेलर को अपने व्यापार चिन्हित उत्पाद के अनन्य अधिकार देने की इच्छा रखता है।

विशाल द्वारा दूसरे वर्ष में कमाए गए शुद्ध लाभ/हानि की गणना करें।

- (1) शुद्ध लाभ - ₹ 5,00,000
- (2) शुद्ध हानि - ₹ 5,00,000
- (3) शुद्ध लाभ - ₹ 3,50,000
- (4) शुद्ध हानि - ₹ 3,50,000

Options :

212807131381. 1
212807131382. 2
212807131383. 3
212807131384. 4

Question Number : 582 Question Id : 21280732847 Question Type : MCQ Option Shuffling : No Is Question Mandatory : No Calculator : None
Response Time : N.A Think Time : N.A Minimum Instruction Time : 0

Correct Marks : 5 Wrong Marks : 1

Question Key Details :

Key	Value
Comprehension	Comp2

Case Study

Vishal started a south Indian restaurant in old Delhi region. He invested 10 lakhs of his own and borrowed ₹ 15 lakh from SBH Bank @ 10% p.a. The sales revenue for the first year was ₹ 5 lakhs while the cost of goods sold was ₹ 7 lakh. Vishal realised that earning rewards is a must for a business to survive for long. In order to increase his sales he focused on customers satisfaction and regularly collected customers feedback. He also advertised about his restaurant in the local daily and offered discount coupons to customers who placed orders above ₹ 2000. This effort enabled Vishal to increase his sales revenue to ₹ 15,00,000 with COGS at ₹ 10,00,000. Today Vishal has expanded his business by opening outlets in other parts of Delhi on his own.

Vishal's vision for the future is that he wants to be in business for himself but not by himself. He aspires to give exclusive rights of his trade marked product to independent retailer in return for their payment of royalties and conformance to standardized operating procedures.

Identify the idea field that enabled Vishal to start his restaurant ?

- (1) Natural resource
- (2) Existing product/service
- (3) Trading related
- (4) Service sector ideas

Options :

- 212807131385. 1
- 212807131386. 2
- 212807131387. 3
- 212807131388. 4

Question Number : 582 Question Id : 21280732847 Question Type : MCQ Option Shuffling : No Is Question Mandatory : No Calculator : None
Response Time : N.A Think Time : N.A Minimum Instruction Time : 0

Correct Marks : 5 Wrong Marks : 1

Question Key Details :

Key	Value
Comprehension	Comp2

समस्या/निरक्षण अध्ययन

विशाल ने पुरानी दिल्ली क्षेत्र में एक दक्षिण भारतीय रेस्तरां शुरू किया। उन्होंने अपने स्वयं के ₹ 10 लाख का निवेश किया और एस बी एच बैंक से 10% पी.ए. पर ₹ 15 लाख उधार लिया। पहले वर्ष के लिए बिक्री राजस्व ₹ 5 लाख था जबकि बेचे गए माल की लागत ₹ 7 लाख थी। विशाल ने महसूस किया कि किसी व्यवसाय को लंबे समय तक जीवित रखने के लिए पुरस्कार/प्रशंसा अर्जित करना आवश्यक है। अपनी बिक्री बढ़ाने के लिए उन्होंने ग्राहकों की संतुष्टि पर ध्यान केंद्रित किया और नियमित रूप से ग्राहकों की प्रतिक्रिया एकत्र की। उन्होंने स्थानीय दैनिक में अपने रेस्तरां के बारे में विज्ञापन भी दिया और ₹ 2000 से ऊपर के ऑर्डर देने वाले ग्राहकों को डिस्काउंट कूपन की पेशकश की। इस प्रयास ने विशाल की ₹ 10,00,000 पर COGS के साथ अपनी बिक्री राजस्व को ₹ 15,00,000 तक बढ़ाने में सक्षम बनाया। आज विशाल ने अपने बल पर दिल्ली के अन्य भागों में आउटलेट खोलकर अपने व्यवसाय का विस्तार किया है।

भविष्य के लिए विशाल का दृष्टिकोण यह है कि वह अपने द्वारा नहीं बल्कि अपने लिए व्यवसाय करना चाहता है वह रायल्टी के भुगतान और मानकीकृत संचालन प्रक्रियाओं के अनुरूप होने के बदले में स्वतंत्र रिटेलर को अपने व्यापार चिन्हित उत्पाद के अनन्य अधिकार देने की इच्छा रखता है।

उस विचार की पहचान करें जिसके द्वारा विशाल अपने रेस्तरां को प्रारंभ करने में सक्षम हुआ।

- (1) प्राकृतिक संसाधन
- (2) विद्यमान उत्पादन/सेवाएं
- (3) व्यापार संबंधित
- (4) सेवा सेक्टर का विचार

Options :

212807131385. 1
212807131386. 2
212807131387. 3
212807131388. 4

Question Number : 583 Question Id : 21280732848 Question Type : MCQ Option Shuffling : No Is Question Mandatory : No Calculator : None
Response Time : N.A Think Time : N.A Minimum Instruction Time : 0

Correct Marks : 5 Wrong Marks : 1

Question Key Details :

Key	Value
Comprehension	Comp2

Case Study

Vishal started a south Indian restaurant in old Delhi region. He invested 10 lakhs of his own and borrowed ₹ 15 lakh from SBH Bank @ 10% p.a. The sales revenue for the first year was ₹ 5 lakhs while the cost of goods sold was ₹ 7 lakh. Vishal realised that earning rewards is a must for a business to survive for long. In order to increase his sales he focused on customers satisfaction and regularly collected customers feedback. He also advertised about his restaurant in the local daily and offered discount coupons to customers who placed orders above ₹ 2000. This effort enabled Vishal to increase his sales revenue to ₹ 15,00,000 with COGS at ₹ 10,00,000. Today Vishal has expanded his business by opening outlets in other parts of Delhi on his own.

Vishal's vision for the future is that he wants to be in business for himself but not by himself. He aspires to give exclusive rights of his trade marked product to independent retailer in return for their payment of royalties and conformance to standardized operating procedures.

Identify the promotion strategy adopted by Vishal when he advertised about his restaurant in the local daily newspaper.

- (1) Above the line
- (2) Through the line
- (3) Below the line
- (4) Out of line

Options :

212807131389. 1
212807131390. 2
212807131391. 3
212807131392. 4

Question Number : 583 Question Id : 21280732848 Question Type : MCQ Option Shuffling : No Is Question Mandatory : No Calculator : None
Response Time : N.A Think Time : N.A Minimum Instruction Time : 0

Correct Marks : 5 Wrong Marks : 1

Question Key Details :

Key	Value
Comprehension	Comp2

समस्या/निरक्षण अध्ययन

विशाल ने पुरानी दिल्ली क्षेत्र में एक दक्षिण भारतीय रेस्तरां शुरू किया। उन्होंने अपने स्वयं के ₹ 10 लाख का निवेश किया और एस बी एच बैंक से 10% पी.ए. पर ₹ 15 लाख उधार लिया। पहले वर्ष के लिए बिक्री राजस्व ₹ 5 लाख था जबकि बेचे गए माल की लागत ₹ 7 लाख थी। विशाल ने महसूस किया कि किसी व्यवसाय को लंबे समय तक जीवित रखने के लिए पुरस्कार/प्रशंसा अर्जित करना आवश्यक है। अपनी बिक्री बढ़ाने के लिए उन्होंने ग्राहकों की संतुष्टि पर ध्यान केंद्रित किया और नियमित रूप से ग्राहकों की प्रतिक्रिया एकत्र की। उन्होंने स्थानीय दैनिक में अपने रेस्तरां के बारे में विज्ञापन भी दिया और ₹ 2000 से ऊपर के ऑर्डर देने वाले ग्राहकों को डिस्काउंट कूपन की पेशकश की। इस प्रयास ने विशाल की ₹ 10,00,000 पर COGS के साथ अपनी बिक्री राजस्व को ₹ 15,00,000 तक बढ़ाने में सक्षम बनाया। आज विशाल ने अपने बल पर दिल्ली के अन्य भागों में आउटलेट खोलकर अपने व्यवसाय का विस्तार किया है।

भविष्य के लिए विशाल का दृष्टिकोण यह है कि वह अपने द्वारा नहीं बल्कि अपने लिए व्यवसाय करना चाहता है वह रायल्टी के भुगतान और मानकीकृत संचालन प्रक्रियाओं के अनुरूप होने के बदले में स्वतंत्र रिटेलर को अपने व्यापार चिन्हित उत्पाद के अनन्य अधिकार देने की इच्छा रखता है।

विशाल द्वारा प्रहीत प्रचार की योजना की पहचान करें जब वह अपने रेस्तरां का प्रचार एक दैनिक अखबार में करता है।

- (1) रेखा से ऊपर
- (2) रेखा से माध्यम से
- (3) रेखा से नीचे
- (4) रेखा से बाहर

Options :

212807131389. 1
212807131390. 2
212807131391. 3
212807131392. 4

Question Number : 584 Question Id : 21280732849 Question Type : MCQ Option Shuffling : No Is Question Mandatory : No Calculator : None
Response Time : N.A Think Time : N.A Minimum Instruction Time : 0

Correct Marks : 5 Wrong Marks : 1

Question Key Details :

Key	Value
Comprehension	Comp2

Case Study

Vishal started a south Indian restaurant in old Delhi region. He invested 10 lakhs of his own and borrowed ₹ 15 lakh from SBH Bank @ 10% p.a. The sales revenue for the first year was ₹ 5 lakhs while the cost of goods sold was ₹ 7 lakh. Vishal realised that earning rewards is a must for a business to survive for long. In order to increase his sales he focused on customers satisfaction and regularly collected customers feedback. He also advertised about his restaurant in the local daily and offered discount coupons to customers who placed orders above ₹ 2000. This effort enabled Vishal to increase his sales revenue to ₹ 15,00,000 with COGS at ₹ 10,00,000. Today Vishal has expanded his business by opening outlets in other parts of Delhi on his own.

Vishal's vision for the future is that he wants to be in business for himself but not by himself. He aspires to give exclusive rights of his trade marked product to independent retailer in return for their payment of royalties and conformance to standardized operating procedures.

Identify the promotion strategy adopted by Vishal when he offers discounts to customers who place orders above ₹ 2,000

- (1) Above the line
- (2) Below the line
- (3) Through the line
- (4) Out of line

Options :

- 212807131393. 1
- 212807131394. 2
- 212807131395. 3
- 212807131396. 4

Question Number : 584 Question Id : 21280732849 Question Type : MCQ Option Shuffling : No Is Question Mandatory : No Calculator : None
Response Time : N.A Think Time : N.A Minimum Instruction Time : 0

Correct Marks : 5 Wrong Marks : 1

Question Key Details :

Key	Value
Comprehension	Comp2

समस्या/निरक्षण अध्ययन

विशाल ने पुरानी दिल्ली क्षेत्र में एक दक्षिण भारतीय रेस्तरां शुरू किया। उन्होंने अपने स्वयं के ₹ 10 लाख का निवेश किया और एस बी एच बैंक से 10% पी.ए. पर ₹ 15 लाख उधार लिया। पहले वर्ष के लिए बिक्री राजस्व ₹ 5 लाख था जबकि बेचे गए माल की लागत ₹ 7 लाख थी। विशाल ने महसूस किया कि किसी व्यवसाय को लंबे समय तक जीवित रखने के लिए पुरस्कार/प्रशंसा अर्जित करना आवश्यक है। अपनी बिक्री बढ़ाने के लिए उन्होंने ग्राहकों की संतुष्टि पर ध्यान केंद्रित किया और नियमित रूप से ग्राहकों की प्रतिक्रिया एकत्र की। उन्होंने स्थानीय दैनिक में अपने रेस्तरां के बारे में विज्ञापन भी दिया और ₹ 2000 से ऊपर के ऑर्डर देने वाले ग्राहकों को डिस्काउंट कूपन की पेशकश की। इस प्रयास ने विशाल की ₹ 10,00,000 पर COGS के साथ अपनी बिक्री राजस्व को ₹ 15,00,000 तक बढ़ाने में सक्षम बनाया। आज विशाल ने अपने बल पर दिल्ली के अन्य भागों में आउटलेट खोलकर अपने व्यवसाय का विस्तार किया है।

भविष्य के लिए विशाल का दृष्टिकोण यह है कि वह अपने द्वारा नहीं बल्कि अपने लिए व्यवसाय करना चाहता है वह रायल्टी के भुगतान और मानकीकृत संचालन प्रक्रियाओं के अनुरूप होने के बदले में स्वतंत्र रिटेलर को अपने व्यापार चिन्हित उत्पाद के अनन्य अधिकार देने की इच्छा रखता है।

विशाल के द्वारा अपनाई गई प्रचार की रणनीति की पहचान करें जिसमें यदि उपभोगता ₹ 2,000 से अधिक का सामान मंगवाते हैं तो उन्हें दाम में रियायत मिलती है।

- (1) रेखा से ऊपर
- (2) रेखा के नीचे
- (3) रेखा के माध्यम से
- (4) रेखा से बाहर

Options :

212807131393. 1
212807131394. 2
212807131395. 3
212807131396. 4

Question Number : 585 Question Id : 21280732850 Question Type : MCQ Option Shuffling : No Is Question Mandatory : No Calculator : None
Response Time : N.A Think Time : N.A Minimum Instruction Time : 0

Correct Marks : 5 Wrong Marks : 1

Question Key Details :

Key	Value
Comprehension	Comp2

Case Study

Vishal started a south Indian restaurant in old Delhi region. He invested 10 lakhs of his own and borrowed ₹ 15 lakh from SBH Bank @ 10% p.a. The sales revenue for the first year was ₹ 5 lakhs while the cost of goods sold was ₹ 7 lakh. Vishal realised that earning rewards is a must for a business to survive for long. In order to increase his sales he focused on customers satisfaction and regularly collected customers feedback. He also advertised about his restaurant in the local daily and offered discount coupons to customers who placed orders above ₹ 2000. This effort enabled Vishal to increase his sales revenue to ₹ 15,00,000 with COGS at ₹ 10,00,000. Today Vishal has expanded his business by opening outlets in other parts of Delhi on his own.

Vishal's vision for the future is that he wants to be in business for himself but not by himself. He aspires to give exclusive rights of his trade marked product to independent retailer in return for their payment of royalties and conformance to standardized operating procedures.

'Vishal realised that earning rewards is a must for a business to survive for long'. Identify the characteristic of business highlighted in the above line.

- (1) Profit earning
- (2) Entrepreneur's presence
- (3) Risk element
- (4) Utility creation

Options :

212807131397. 1
212807131398. 2
212807131399. 3
212807131400. 4

Question Number : 585 Question Id : 21280732850 Question Type : MCQ Option Shuffling : No Is Question Mandatory : No Calculator : None
Response Time : N.A Think Time : N.A Minimum Instruction Time : 0

Correct Marks : 5 Wrong Marks : 1

Question Key Details :

Key	Value
Comprehension	Comp2

समस्या/निरक्षण अध्ययन

विशाल ने पुरानी दिल्ली क्षेत्र में एक दक्षिण भारतीय रेस्तरां शुरू किया। उन्होंने अपने स्वयं के ₹ 10 लाख का निवेश किया और एस बी एच बैंक से 10% पी.ए. पर ₹ 15 लाख उधार लिया। पहले वर्ष के लिए बिक्री राजस्व ₹ 5 लाख था जबकि बेचे गए माल की लागत ₹ 7 लाख थी। विशाल ने महसूस किया कि किसी व्यवसाय को लंबे समय तक जीवित रखने के लिए पुरस्कार/प्रशंसा अर्जित करना आवश्यक है। अपनी बिक्री बढ़ाने के लिए उन्होंने ग्राहकों की संतुष्टि पर ध्यान केंद्रित किया और नियमित रूप से ग्राहकों की प्रतिक्रिया एकत्र की। उन्होंने स्थानीय दैनिक में अपने रेस्तरां के बारे में विज्ञापन भी दिया और ₹ 2000 से ऊपर के ऑर्डर देने वाले ग्राहकों को डिस्काउंट कूपन की पेशकश की। इस प्रयास ने विशाल की ₹ 10,00,000 पर COGS के साथ अपनी बिक्री राजस्व को ₹ 15,00,000 तक बढ़ाने में सक्षम बनाया। आज विशाल ने अपने बल पर दिल्ली के अन्य भागों में आउटलेट खोलकर अपने व्यवसाय का विस्तार किया है।

भविष्य के लिए विशाल का दृष्टिकोण यह है कि वह अपने द्वारा नहीं बल्कि अपने लिए व्यवसाय करना चाहता है वह रायल्टी के भुगतान और मानकीकृत संचालन प्रक्रियाओं के अनुरूप होने के बदले में स्वतंत्र रिटेलर को अपने व्यापार चिन्हित उत्पाद के अनन्य अधिकार देने की इच्छा रखता है।

विशाल को यह आभास हुआ कि अपने व्यवसाय को बहुत लंबे समय तक कार्यान्वित करने के लिए उसे पुरस्कार/प्रशंसा प्राप्त करने की अति आवश्यकता है। उपयुक्त पंक्ति में व्यवसाय की मुख्य विशेषताओं की पहचान करें।

- (1) मुनाफा/लाभ कमाना
- (2) उद्यमी की उपस्थिति
- (3) जोखिम तत्व
- (4) उपयोगिता निर्माण

Options :

212807131397. 1
212807131398. 2
212807131399. 3
212807131400. 4

Fine Arts

Group Number :	18
Group Id :	212807742
Group Maximum Duration :	45
Group Minimum Duration :	45
Show Attended Group? :	No
Edit Attended Group? :	No
Break time :	0
Group Marks :	200
Is this Group for Examiner? :	No
Examiner permission :	Cant View
Show Progress Bar? :	No

Fine Arts

Section Id :	212807874
Section Number :	1
Section type :	Online
Mandatory or Optional :	Mandatory
Number of Questions :	50
Number of Questions to be attempted :	40
Section Marks :	200
Enable Mark as Answered Mark for Review and Clear Response :	Yes
Maximum Instruction Time :	0

Sub-Section Number : 1
Sub-Section Id : 2128072520
Question Shuffling Allowed : Yes
Is Section Default? : null

Question Number : 586 Question Id : 21280731966 Question Type : MCQ Option Shuffling : No Is Question Mandatory : No Calculator : None
Response Time : N.A Think Time : N.A Minimum Instruction Time : 0

Correct Marks : 5 Wrong Marks : 1

Question Key Details :

Key	Value
Comprehension	MCQ1

Who narrates the story in “Kalakacharyakatha” ?

- (1) Acharya Saptrishi
- (2) Acharya Ved Vyas
- (3) Acharya Kalaka
- (4) Acharya Shukra

Options :

212807127861. 1
212807127862. 2
212807127863. 3
212807127864. 4

Question Number : 586 Question Id : 21280731966 Question Type : MCQ Option Shuffling : No Is Question Mandatory : No Calculator : None
Response Time : N.A Think Time : N.A Minimum Instruction Time : 0

Correct Marks : 5 Wrong Marks : 1

Question Key Details :

Key	Value
Comprehension	MCQ1

कालकाचार्यकथा में कहानी कौन कहता है ?

- (1) आचार्य सप्तर्षि
- (2) आचार्य वेदव्यास
- (3) आचार्य कालका
- (4) आचार्य शुक्र

Options :

212807127861. 1
212807127862. 2
212807127863. 3
212807127864. 4

Question Number : 587 Question Id : 21280731967 Question Type : MCQ Option Shuffling : No Is Question Mandatory : No Calculator : None
Response Time : N.A Think Time : N.A Minimum Instruction Time : 0

Correct Marks : 5 Wrong Marks : 1

Question Key Details :

Key	Value
Comprehension	MCQ1

What is the time period of the origin of “Pahari Art”.

- (1) 16th to 18th Century
- (2) 17th to 19th Century
- (3) 14th to 17th Century
- (4) 15th to 16th Century

Options :

212807127865. 1

212807127866. 2
212807127867. 3
212807127868. 4

Question Number : 587 Question Id : 21280731967 Question Type : MCQ Option Shuffling : No Is Question Mandatory : No Calculator : None
Response Time : N.A Think Time : N.A Minimum Instruction Time : 0

Correct Marks : 5 Wrong Marks : 1

Question Key Details :

Key	Value
Comprehension	MCQ1

पहाड़ी कला की उत्पत्ति का काल क्या है ?

- (1) 16 वीं से 18 वीं शताब्दी
- (2) 17 वीं से 19 वीं शताब्दी
- (3) 14 वीं से 17 वीं शताब्दी
- (4) 15 वीं से 16 वीं शताब्दी

Options :

212807127865. 1
212807127866. 2
212807127867. 3
212807127868. 4

Question Number : 588 Question Id : 21280731968 Question Type : MCQ Option Shuffling : No Is Question Mandatory : No Calculator : None
Response Time : N.A Think Time : N.A Minimum Instruction Time : 0

Correct Marks : 5 Wrong Marks : 1

Question Key Details :

Key	Value
Comprehension	MCQ1

Who coined the term "Rajput Paintings" to refer to Rajasthani Miniature Paintings ?

- (1) B. N. Goswamy
- (2) Anand Coomaraswamy
- (3) Nandalal Bose
- (4) Ramchandra Shukl

Options :

212807127869. 1
212807127870. 2
212807127871. 3
212807127872. 4

Question Number : 588 Question Id : 21280731968 Question Type : MCQ Option Shuffling : No Is Question Mandatory : No Calculator : None
Response Time : N.A Think Time : N.A Minimum Instruction Time : 0

Correct Marks : 5 Wrong Marks : 1

Question Key Details :

Key	Value
Comprehension	MCQ1

राजस्थानी लघुचित्रों को 'राजपूत चित्रकला' नाम की शुरुआत किसने की ?

- (1) बी. एन. गोस्वामी
- (2) आनन्द कुमारस्वामी
- (3) नन्दलाल बोस
- (4) रामचन्द्र शुक्ल

Options :

212807127869. 1
212807127870. 2
212807127871. 3
212807127872. 4

Question Number : 589 Question Id : 21280731969 Question Type : MCQ Option Shuffling : No Is Question Mandatory : No Calculator : None
Response Time : N.A Think Time : N.A Minimum Instruction Time : 0

Correct Marks : 5 Wrong Marks : 1

Question Key Details :

Key	Value
Comprehension	MCQ1

Which of the following artist of Mewar School painted "Bihari Satsai" in 1719 ?

- (1) Jagannath
- (2) Sahibdin
- (3) Manohar
- (4) Nisardin

Options :

212807127873. 1
212807127874. 2
212807127875. 3
212807127876. 4

Question Number : 589 Question Id : 21280731969 Question Type : MCQ Option Shuffling : No Is Question Mandatory : No Calculator : None
Response Time : N.A Think Time : N.A Minimum Instruction Time : 0

Correct Marks : 5 Wrong Marks : 1

Question Key Details :

Key	Value
Comprehension	MCQ1

निम्नलिखित कलाकारों में से मेवाड़ शैली के किस कलाकार ने सन 1719 में 'बिहारी सतसई' नामक चित्रकला बनाई ?

- (1) जगन्नाथ
- (2) साहिबदीन
- (3) मनोहर
- (4) निसारदीन

Options :

212807127873. 1
212807127874. 2
212807127875. 3
212807127876. 4

Question Number : 590 Question Id : 21280731970 Question Type : MCQ Option Shuffling : No Is Question Mandatory : No Calculator : None
Response Time : N.A Think Time : N.A Minimum Instruction Time : 0

Correct Marks : 5 Wrong Marks : 1

Question Key Details :

Key	Value
Comprehension	MCQ1

Who among the following was a master artist from the "Persian School" of painting in Babur's Court ?

- (1) Manohar
- (2) Bichitra
- (3) Bihzad
- (4) Mansur

Options :

212807127877. 1
212807127878. 2
212807127879. 3
212807127880. 4

Question Number : 590 Question Id : 21280731970 Question Type : MCQ Option Shuffling : No Is Question Mandatory : No Calculator : None Response Time : N.A Think Time : N.A Minimum Instruction Time : 0

Correct Marks : 5 Wrong Marks : 1

Question Key Details :

Key	Value
Comprehension	MCQ1

निम्नलिखित में से कौन बाबर के दरबार में फारसी शैली की चित्रकला का विशेषज्ञ कलाकार था ?

- (1) मनोहर
(2) बिचित्र
(3) बिहजाद
(4) मन्सूर

Options :

212807127877. 1
212807127878. 2
212807127879. 3
212807127880. 4

Question Number : 591 Question Id : 21280731971 Question Type : MCQ Option Shuffling : No Is Question Mandatory : No Calculator : None Response Time : N.A Think Time : N.A Minimum Instruction Time : 0

Correct Marks : 5 Wrong Marks : 1

Question Key Details :

Key	Value
Comprehension	MCQ1

The painting "Spies Attack the City of Kaymar" (1567-82) is illustrated in which of the following manuscripts ?

- (1) Tutinama
(2) Hamza Nama
(3) Baburnama
(4) Razm Nama

Options :

212807127881. 1
212807127882. 2
212807127883. 3
212807127884. 4

Question Number : 591 Question Id : 21280731971 Question Type : MCQ Option Shuffling : No Is Question Mandatory : No Calculator : None Response Time : N.A Think Time : N.A Minimum Instruction Time : 0

Correct Marks : 5 Wrong Marks : 1

Question Key Details :

Key	Value
Comprehension	MCQ1

‘स्पाइज अटैक द सिटी आफ केमार’ (केमार नगर पर जासूसों का हमला) (1567-82), नामक लघुचित्र निम्नलिखित में से किस पांडुलिपि में दर्शाया गया है ?

- (1) तूतीनामा
- (2) हम्ज़ानामा
- (3) बाबरनामा
- (4) रज़मनामा

Options :

212807127881. 1
212807127882. 2
212807127883. 3
212807127884. 4

Question Number : 592 Question Id : 21280731972 Question Type : MCQ Option Shuffling : No Is Question Mandatory : No Calculator : None Response Time : N.A Think Time : N.A Minimum Instruction Time : 0

Correct Marks : 5 Wrong Marks : 1

Question Key Details :

Key	Value
Comprehension	MCQ1

In which script the text is written on the top of the painting “Falcon on a Bird Rest” ?

- (1) Devnagari
- (2) Urdu
- (3) Persian
- (4) Iranian

Options :

212807127885. 1
212807127886. 2
212807127887. 3
212807127888. 4

Question Number : 592 Question Id : 21280731972 Question Type : MCQ Option Shuffling : No Is Question Mandatory : No Calculator : None Response Time : N.A Think Time : N.A Minimum Instruction Time : 0

Correct Marks : 5 Wrong Marks : 1

Question Key Details :

Key	Value
Comprehension	MCQ1

“फाल्कन आन ए बर्ड रेस्ट” नामक लघुचित्र के ऊपर लिखा गया पाठ किस लिपि में लिखा गया है ?

- (1) देवनागरी
- (2) उर्दू
- (3) फारसी
- (4) ईरानी

Options :

212807127885. 1
212807127886. 2
212807127887. 3
212807127888. 4

Question Number : 593 Question Id : 21280731973 Question Type : MCQ Option Shuffling : No Is Question Mandatory : No Calculator : None Response Time : N.A Think Time : N.A Minimum Instruction Time : 0

Correct Marks : 5 Wrong Marks : 1

Question Key Details :

Key	Value
Comprehension	MCQ1

In the compositional arrangement of "The Marriage Procession of Dara Shikoh", how Dara Shikoh and his father Shahjahan are placed ?

- (1) Sitting on Elephant
- (2) Sitting on horse
- (3) Sitting on Camel
- (4) Sitting on Palki

Options :

212807127889. 1
212807127890. 2
212807127891. 3
212807127892. 4

Question Number : 593 Question Id : 21280731973 Question Type : MCQ Option Shuffling : No Is Question Mandatory : No Calculator : None
Response Time : N.A Think Time : N.A Minimum Instruction Time : 0

Correct Marks : 5 Wrong Marks : 1

Question Key Details :

Key	Value
Comprehension	MCQ1

"दारा शिकोह की बारात" के रचना विन्यास में दाराशिकोह और शाहजहाँ को किस तरह दिखाया गया है ?

- (1) हाथी पर बैठे हुए
- (2) घोड़े पर बैठे हुए
- (3) ऊँट पर बैठे हुए
- (4) पालकी पर बैठे हुए

Options :

212807127889. 1
212807127890. 2
212807127891. 3
212807127892. 4

Question Number : 594 Question Id : 21280731974 Question Type : MCQ Option Shuffling : No Is Question Mandatory : No Calculator : None
Response Time : N.A Think Time : N.A Minimum Instruction Time : 0

Correct Marks : 5 Wrong Marks : 1

Question Key Details :

Key	Value
Comprehension	MCQ1

The town 'Mankot' is known for which of the following schools of paintings ?

- (1) Bengal School
- (2) Rajasthani School
- (3) Mughal School
- (4) Pahari School

Options :

212807127893. 1
212807127894. 2
212807127895. 3
212807127896. 4

Question Number : 594 Question Id : 21280731974 Question Type : MCQ Option Shuffling : No Is Question Mandatory : No Calculator : None
Response Time : N.A Think Time : N.A Minimum Instruction Time : 0

Correct Marks : 5 Wrong Marks : 1

Question Key Details :

Key	Value
Comprehension	MCQ1

'मानकोट' नामक नगर निम्नलिखित चित्रकला शैलियों में से किसके लिए जाना जाता है ?

- (1) बंगाल शैली
- (2) राजस्थानी शैली
- (3) मुगल शैली
- (4) पहाड़ी शैली

Options :

212807127893. 1
212807127894. 2
212807127895. 3
212807127896. 4

Question Number : 595 Question Id : 21280731975 Question Type : MCQ Option Shuffling : No Is Question Mandatory : No Calculator : None
Response Time : N.A Think Time : N.A Minimum Instruction Time : 0

Correct Marks : 5 Wrong Marks : 1

Question Key Details :

Key	Value
Comprehension	MCQ1

Who among the following was the main artist and creator of the journal "Indian Society of Oriental Art".

- (1) Rabindranath Tagore
- (2) Abanindranath Tagore
- (3) K. Venkatappa
- (4) Anand Coomarswami

Options :

212807127897. 1
212807127898. 2
212807127899. 3
212807127900. 4

Question Number : 595 Question Id : 21280731975 Question Type : MCQ Option Shuffling : No Is Question Mandatory : No Calculator : None
Response Time : N.A Think Time : N.A Minimum Instruction Time : 0

Correct Marks : 5 Wrong Marks : 1

Question Key Details :

Key	Value
Comprehension	MCQ1

निम्नलिखित कलाकारों में कौन "इन्डियन सोसाइटी आफ ओरिएण्टल आर्ट" का मुख्य कलाकार और संस्थापक था ?

- (1) रबिन्द्रनाथ टैगोर
- (2) अबनीन्द्रनाथ टैगोर
- (3) के. वेंकटप्पा
- (4) आनन्द कुमारस्वामी

Options :

212807127897. 1
212807127898. 2
212807127899. 3
212807127900. 4

Question Number : 596 Question Id : 21280731976 Question Type : MCQ Option Shuffling : No Is Question Mandatory : No Calculator : None
Response Time : N.A Think Time : N.A Minimum Instruction Time : 0

Correct Marks : 5 Wrong Marks : 1

Question Key Details :

Key	Value
Comprehension	MCQ1

The artist who painted “Haripura Posters” for the congress session at Haripura in 1937.

- (1) Jamini Roy
- (2) Abanindranath Tagore
- (3) Nandalal Bose
- (4) E. B. Havell

Options :

212807127901. 1
212807127902. 2
212807127903. 3
212807127904. 4

Question Number : 596 Question Id : 21280731976 Question Type : MCQ Option Shuffling : No Is Question Mandatory : No Calculator : None
Response Time : N.A Think Time : N.A Minimum Instruction Time : 0

Correct Marks : 5 Wrong Marks : 1

Question Key Details :

Key	Value
Comprehension	MCQ1

1937 में हरिपुरा में हुए कांग्रेस अधिवेशन के लिए “हरिपुरा पोस्टर्स” किस कलाकार ने चित्रित किए ?

- (1) जामिनी रॉय
- (2) अबनीन्द्रनाथ टैगोर
- (3) नन्दलाल बोस
- (4) ई. बी. हेवेल

Options :

212807127901. 1
212807127902. 2
212807127903. 3
212807127904. 4

Question Number : 597 Question Id : 21280731977 Question Type : MCQ Option Shuffling : No Is Question Mandatory : No Calculator : None
Response Time : N.A Think Time : N.A Minimum Instruction Time : 0

Correct Marks : 5 Wrong Marks : 1

Question Key Details :

Key	Value
Comprehension	MCQ1

Abanindranath Tagore and who among the following designed a curriculum to include and encourage technique and themes from Indian art traditions ?

- (1) E. B. Havell
- (2) Rabindranath Tagore
- (3) Anand Coomaraswamy
- (4) Nandalal Bose

Options :

212807127905. 1
212807127906. 2
212807127907. 3

Question Number : 597 Question Id : 21280731977 Question Type : MCQ Option Shuffling : No Is Question Mandatory : No Calculator : None
Response Time : N.A Think Time : N.A Minimum Instruction Time : 0

Correct Marks : 5 Wrong Marks : 1

Question Key Details :

Key	Value
Comprehension	MCQ1

भारतीय कला परम्पराओं में तकनीक और कथानकों को सम्मिलित और प्रात्साहित करने के लिए अबनीन्द्रनाथ टैगोर ने किसके साथ मिलकर एक पाठ्यक्रम की रचना की थी ?

- (1) ई. बी. हेवल
- (2) रविन्द्रनाथ टैगोर
- (3) आनन्द कुमारस्वामी
- (4) नन्दलाल बोस

Options :

212807127905. 1
212807127906. 2
212807127907. 3
212807127908. 4

Question Number : 598 Question Id : 21280731978 Question Type : MCQ Option Shuffling : No Is Question Mandatory : No Calculator : None
Response Time : N.A Think Time : N.A Minimum Instruction Time : 0

Correct Marks : 5 Wrong Marks : 1

Question Key Details :

Key	Value
Comprehension	MCQ1

Who painted the painting "Rasa Lila" ?

- (1) M. R. Chughtai
- (2) Nandalal Bose
- (3) Ramgopal Vijayvargiya
- (4) Kshitindranath Majumdar

Options :

212807127909. 1
212807127910. 2
212807127911. 3
212807127912. 4

Question Number : 598 Question Id : 21280731978 Question Type : MCQ Option Shuffling : No Is Question Mandatory : No Calculator : None
Response Time : N.A Think Time : N.A Minimum Instruction Time : 0

Correct Marks : 5 Wrong Marks : 1

Question Key Details :

Key	Value
Comprehension	MCQ1

'रस-लीला' नामक चित्र को किसने चित्रित किया था ?

- (1) एम. आर. चुगताई
- (2) नन्दलाल बोस
- (3) रामगोपाल विजयवर्गीय
- (4) क्षितीन्द्रनाथ मजूमदार

Options :

212807127909. 1
212807127910. 2
212807127911. 3
212807127912. 4

Question Number : 599 Question Id : 21280731979 Question Type : MCQ Option Shuffling : No Is Question Mandatory : No Calculator : None
Response Time : N.A Think Time : N.A Minimum Instruction Time : 0

Correct Marks : 5 Wrong Marks : 1

Question Key Details :

Key	Value
Comprehension	MCQ1

The “Bengal School”, “Pahari School”, “Mughal School” and “Kangra School” represent different styles in which of the following ?

- (1) Architecture
- (2) Music
- (3) Dance
- (4) Painting

Options :

212807127913. 1
212807127914. 2
212807127915. 3
212807127916. 4

Question Number : 599 Question Id : 21280731979 Question Type : MCQ Option Shuffling : No Is Question Mandatory : No Calculator : None
Response Time : N.A Think Time : N.A Minimum Instruction Time : 0

Correct Marks : 5 Wrong Marks : 1

Question Key Details :

Key	Value
Comprehension	MCQ1

‘बंगाल शैली’, ‘पहाड़ी शैली’, ‘मुगल शैली’ और ‘कांगड़ा शैली’ किस कला की विभिन्न शैलियों का प्रतिनिधित्व करती हैं ?

- (1) वास्तुकला
- (2) संगीत
- (3) नृत्य
- (4) चित्रकला

Options :

212807127913. 1
212807127914. 2
212807127915. 3
212807127916. 4

Question Number : 600 Question Id : 21280731980 Question Type : MCQ Option Shuffling : No Is Question Mandatory : No Calculator : None
Response Time : N.A Think Time : N.A Minimum Instruction Time : 0

Correct Marks : 5 Wrong Marks : 1

Question Key Details :

Key	Value
Comprehension	MCQ1

Among the following who is the founder member of “Cholamandal” artist’s community ?

- (1) D. P. Roy Chawdhury
- (2) K. C. S. Panikar
- (3) Dhanraj Bhagat
- (4) K. G. Subramanyan

Options :

212807127917. 1
212807127918. 2
212807127919. 3
212807127920. 4

Question Number : 600 Question Id : 21280731980 Question Type : MCQ Option Shuffling : No Is Question Mandatory : No Calculator : None Response Time : N.A Think Time : N.A Minimum Instruction Time : 0

Correct Marks : 5 Wrong Marks : 1

Question Key Details :

Key	Value
Comprehension	MCQ1

निम्नलिखित में से कौन “चोल मंडल” कलाकार समुदाय का संस्थापक सदस्य है ?

- (1) डी. पी. रॉय चौधुरी
(2) के. सी. एस. पणिकर
(3) धनराज भगत
(4) के. जी. सुब्रमन्यन

Options :

212807127917. 1
212807127918. 2
212807127919. 3
212807127920. 4

Question Number : 601 Question Id : 21280731981 Question Type : MCQ Option Shuffling : No Is Question Mandatory : No Calculator : None Response Time : N.A Think Time : N.A Minimum Instruction Time : 0

Correct Marks : 5 Wrong Marks : 1

Question Key Details :

Key	Value
Comprehension	MCQ1

During 1958-66, who among the following was the Vice-President of Rajathan Lalit Kala Akademi ?

- (1) Ram Gopal Vijayvargiya
(2) Nandalal Bose
(3) Abanindranath Tagore
(4) A. R. Chughtai

Options :

212807127921. 1
212807127922. 2
212807127923. 3
212807127924. 4

Question Number : 601 Question Id : 21280731981 Question Type : MCQ Option Shuffling : No Is Question Mandatory : No Calculator : None Response Time : N.A Think Time : N.A Minimum Instruction Time : 0

Correct Marks : 5 Wrong Marks : 1

Question Key Details :

Key	Value
Comprehension	MCQ1

सन् 1958-66 में निम्नलिखित में से कौन राजस्थान ललित कला अकादमी का उपाध्यक्ष था ?

- (1) रामगोपाल विजयवर्गीय
- (2) नन्दलाल बोस
- (3) अबनीन्द्रनाथ टैगोर
- (4) ए. आर. चुगताई

Options :

212807127921. 1
212807127922. 2
212807127923. 3
212807127924. 4

Question Number : 602 Question Id : 21280731982 Question Type : MCQ Option Shuffling : No Is Question Mandatory : No Calculator : None
Response Time : N.A Think Time : N.A Minimum Instruction Time : 0

Correct Marks : 5 Wrong Marks : 1

Question Key Details :

Key	Value
Comprehension	MCQ1

“Pichhwai” are traditionally done in which of the following State ?

- (1) West Bengal
- (2) Kerala
- (3) Odisha
- (4) Rajasthan

Options :

212807127925. 1
212807127926. 2
212807127927. 3
212807127928. 4

Question Number : 602 Question Id : 21280731982 Question Type : MCQ Option Shuffling : No Is Question Mandatory : No Calculator : None
Response Time : N.A Think Time : N.A Minimum Instruction Time : 0

Correct Marks : 5 Wrong Marks : 1

Question Key Details :

Key	Value
Comprehension	MCQ1

निम्नलिखित में से किस राज्य में परम्परागत रूप से “पिछवाई” की जाती है ?

- (1) पश्चिम बंगाल
- (2) केरल
- (3) ओडिशा
- (4) राजस्थान

Options :

212807127925. 1
212807127926. 2
212807127927. 3
212807127928. 4

Question Number : 603 Question Id : 21280731983 Question Type : MCQ Option Shuffling : No Is Question Mandatory : No Calculator : None
Response Time : N.A Think Time : N.A Minimum Instruction Time : 0

Correct Marks : 5 Wrong Marks : 1

Question Key Details :

Key	Value
-----	-------

The traditional painting of Odisha is known as _____ ?

- (1) Warli painting
- (2) Pabuji ki phad
- (3) Pichhwai
- (4) Pattachitra

Options :

212807127929. 1
212807127930. 2
212807127931. 3
212807127932. 4

Question Number : 603 Question Id : 21280731983 Question Type : MCQ Option Shuffling : No Is Question Mandatory : No Calculator : None
Response Time : N.A Think Time : N.A Minimum Instruction Time : 0

Correct Marks : 5 Wrong Marks : 1

Question Key Details :

Key	Value
Comprehension	MCQ1

ओडिशा की परम्परात चित्रकला को निम्न नाम से जाना जाता है :

- (1) वर्ली चित्रकला
- (2) पाबू जी की फड़
- (3) पिछवाई
- (4) पट्टचित्र

Options :

212807127929. 1
212807127930. 2
212807127931. 3
212807127932. 4

Question Number : 604 Question Id : 21280731984 Question Type : MCQ Option Shuffling : No Is Question Mandatory : No Calculator : None
Response Time : N.A Think Time : N.A Minimum Instruction Time : 0

Correct Marks : 5 Wrong Marks : 1

Question Key Details :

Key	Value
Comprehension	MCQ1

“Triumph of Labour”, an open-air large-scale sculpture in bronze is made by whom ?

- (1) Debi Prasad Roy Chowdhury
- (2) Ramkinker Baij
- (3) Anupam Sud
- (4) Laxma Goud

Options :

212807127933. 1
212807127934. 2
212807127935. 3
212807127936. 4

Question Number : 604 Question Id : 21280731984 Question Type : MCQ Option Shuffling : No Is Question Mandatory : No Calculator : None
Response Time : N.A Think Time : N.A Minimum Instruction Time : 0

Correct Marks : 5 Wrong Marks : 1

Question Key Details :

Key	Value

'ट्राएम्फ आफ लेबर' (श्रम की विजय), नामक बाह्य वातावरण में बड़े पैमाने पर कांसे से बने मूर्तिशिल्प को किसने बनाया ?

- (1) देबी प्रसाद रॉय चौधुरी
- (2) रामकिंकर बैज
- (3) अनुपम सूद
- (4) लक्ष्मा गौड़

Options :

212807127933. 1

212807127934. 2

212807127935. 3

212807127936. 4

Question Number : 605 Question Id : 21280731985 Question Type : MCQ Option Shuffling : No Is Question Mandatory : No Calculator : None Response Time : N.A Think Time : N.A Minimum Instruction Time : 0

Correct Marks : 5 Wrong Marks : 1

Question Key Details :

Key	Value
Comprehension	MCQ1

What is "Khar-taad" ?

- (1) A type of Sculpture
- (2) Palm manuscripts
- (3) Contemporary painting
- (4) A painting technique

Options :

212807127937. 1

212807127938. 2

212807127939. 3

212807127940. 4

Question Number : 605 Question Id : 21280731985 Question Type : MCQ Option Shuffling : No Is Question Mandatory : No Calculator : None Response Time : N.A Think Time : N.A Minimum Instruction Time : 0

Correct Marks : 5 Wrong Marks : 1

Question Key Details :

Key	Value
Comprehension	MCQ1

"खार-ताड़" क्या है ?

- (1) मूर्तिशिल्प का एक प्रकार
- (2) ताड़पत्र पान्डुलिपि
- (3) समकालीन चित्रकला
- (4) एक चित्रकला तकनीक

Options :

212807127937. 1

212807127938. 2

212807127939. 3

212807127940. 4

Question Number : 606 Question Id : 21280731986 Question Type : MCQ Option Shuffling : No Is Question Mandatory : No Calculator : None Response Time : N.A Think Time : N.A Minimum Instruction Time : 0

Correct Marks : 5 Wrong Marks : 1

Question Key Details :

Key	Value
Comprehension	MCQ1

What is "Pabuji ki phad" ?

- (1) A type of wall painting
- (2) Pattachitras
- (3) A type of cloth scroll painting
- (4) A type of rangoli

Options :

212807127941. 1
212807127942. 2
212807127943. 3
212807127944. 4

Question Number : 606 Question Id : 21280731986 Question Type : MCQ Option Shuffling : No Is Question Mandatory : No Calculator : None
Response Time : N.A Think Time : N.A Minimum Instruction Time : 0

Correct Marks : 5 Wrong Marks : 1

Question Key Details :

Key	Value
Comprehension	MCQ1

'पाबू जी की फड़' क्या है ?

- (1) दीवार चित्रकला का एक प्रकार
- (2) पट्टचित्र
- (3) वस्त्र कुंडलित चित्र का एक प्रकार
- (4) रंगोली का एक प्रकार

Options :

212807127941. 1
212807127942. 2
212807127943. 3
212807127944. 4

Question Number : 607 Question Id : 21280731987 Question Type : MCQ Option Shuffling : No Is Question Mandatory : No Calculator : None
Response Time : N.A Think Time : N.A Minimum Instruction Time : 0

Correct Marks : 5 Wrong Marks : 1

Question Key Details :

Key	Value
Comprehension	MCQ1

Who among the following created the artwork 'Vanshri' ?

- (1) Mrinalini Mukharjee
- (2) Jamini Roy
- (3) Amrita Sher-Gil
- (4) Amarnath Sehgal

Options :

212807127945. 1
212807127946. 2
212807127947. 3
212807127948. 4

Question Number : 607 Question Id : 21280731987 Question Type : MCQ Option Shuffling : No Is Question Mandatory : No Calculator : None
Response Time : N.A Think Time : N.A Minimum Instruction Time : 0

Correct Marks : 5 Wrong Marks : 1

Question Key Details :

Key	Value
-----	-------

निम्नलिखित में से किसने “वनश्री” नामक कलाकृति बनाई ?

- (1) मृणालिनी मुखर्जी
- (2) जामिनी रॉय
- (3) अमृता शेरगिल
- (4) अमरनाथ सहगल

Options :

212807127945. 1

212807127946. 2

212807127947. 3

212807127948. 4

Question Number : 608 Question Id : 21280731988 Question Type : MCQ Option Shuffling : No Is Question Mandatory : No Calculator : None Response Time : N.A Think Time : N.A Minimum Instruction Time : 0

Correct Marks : 5 Wrong Marks : 1

Question Key Details :

Key	Value
Comprehension	MCQ1

Mithila painting belongs to which of the following State ?

- (1) Bengal
- (2) Bihar
- (3) Odisha
- (4) Rajasthan

Options :

212807127949. 1

212807127950. 2

212807127951. 3

212807127952. 4

Question Number : 608 Question Id : 21280731988 Question Type : MCQ Option Shuffling : No Is Question Mandatory : No Calculator : None Response Time : N.A Think Time : N.A Minimum Instruction Time : 0

Correct Marks : 5 Wrong Marks : 1

Question Key Details :

Key	Value
Comprehension	MCQ1

“मिथिला” चित्रकला निम्नलिखित में से किस राज्य की है ?

- (1) बंगाल
- (2) बिहार
- (3) ओडिशा
- (4) राजस्थान

Options :

212807127949. 1

212807127950. 2

212807127951. 3

212807127952. 4

Question Number : 609 Question Id : 21280731989 Question Type : MCQ Option Shuffling : No Is Question Mandatory : No Calculator : None Response Time : N.A Think Time : N.A Minimum Instruction Time : 0

Correct Marks : 5 Wrong Marks : 1

Question Key Details :

Key	Value
Comprehension	MCQ1

Pithoro painting is painted in which State ?

- (1) Kerala
- (2) Maharashtra
- (3) Gujarat
- (4) Rajasthan

Options :

212807127953. 1
212807127954. 2
212807127955. 3
212807127956. 4

Question Number : 609 Question Id : 21280731989 Question Type : MCQ Option Shuffling : No Is Question Mandatory : No Calculator : None
Response Time : N.A Think Time : N.A Minimum Instruction Time : 0

Correct Marks : 5 Wrong Marks : 1

Question Key Details :

Key	Value
Comprehension	MCQ1

“पिथोरो” चित्रकला किस राज्य में की जाती है ?

- (1) केरल
- (2) महाराष्ट्र
- (3) गुजरात
- (4) राजस्थान

Options :

212807127953. 1
212807127954. 2
212807127955. 3
212807127956. 4

Question Number : 610 Question Id : 21280731990 Question Type : MCQ Option Shuffling : No Is Question Mandatory : No Calculator : None
Response Time : N.A Think Time : N.A Minimum Instruction Time : 0

Correct Marks : 5 Wrong Marks : 1

Question Key Details :

Key	Value
Comprehension	MCQ1

The mixture of two colours Blue and Yellow creates :

- (1) Brown
- (2) Purple
- (3) Green
- (4) Sky Blue

Options :

212807127957. 1
212807127958. 2
212807127959. 3
212807127960. 4

Question Number : 610 Question Id : 21280731990 Question Type : MCQ Option Shuffling : No Is Question Mandatory : No Calculator : None
Response Time : N.A Think Time : N.A Minimum Instruction Time : 0

Correct Marks : 5 Wrong Marks : 1

Question Key Details :

Key	Value
-----	-------

नीले और पीले रंग के मिश्रण से कौन सा रंग बनता है ?

- (1) भूरा
- (2) बैंगनी
- (3) हरा
- (4) आसमानी नीला

Options :

212807127957. 1

212807127958. 2

212807127959. 3

212807127960. 4

Sub-Section Number :

2

Sub-Section Id :

2128072521

Question Shuffling Allowed :

No

Is Section Default? :

null

Question Number : 611 Question Id : 21280731991 Question Type : MCQ Option Shuffling : No Is Question Mandatory : No Calculator : None Response Time : N.A Think Time : N.A Minimum Instruction Time : 0

Correct Marks : 5 Wrong Marks : 1

Question Key Details :

Key	Value
Comprehension	Comp1

Observe the image and answer the questions given below :



Identify the title of the painting :

- (1) Gossip
- (2) Mother Teresa
- (3) Haldi Grinder
- (4) Woman with Child

Options :

- 212807127961. 1
- 212807127962. 2
- 212807127963. 3
- 212807127964. 4

Question Number : 611 Question Id : 21280731991 Question Type : MCQ Option Shuffling : No Is Question Mandatory : No Calculator : None Response Time : N.A Think Time : N.A Minimum Instruction Time : 0

Correct Marks : 5 Wrong Marks : 1

Question Key Details :

Key	Value
Comprehension	Compl

इस चित्र का अवलेकन करें और उसके बाद दिए गए प्रश्न का उत्तर दीजिए :



इस चित्रकला का शीर्षक बताइए :

- (1) गॉसिप (गप-शप)
- (2) मदर टेरेसा
- (3) हल्दी पीसने वाले (हल्दी ग्राइन्डर)
- (4) बच्चे के साथ महिला (वुमन विद चाइल्ड)

Options :

212807127961. 1

212807127962. 2

212807127963. 3

212807127964. 4

Question Number : 612 Question Id : 21280731992 Question Type : MCQ Option Shuffling : No Is Question Mandatory : No Calculator : None
Response Time : N.A Think Time : N.A Minimum Instruction Time : 0

Correct Marks : 5 Wrong Marks : 1

Question Key Details :

Key	Value
Comprehension	Comp1

Observe the image and answer the questions given below :



The technique used in this painting :

- (1) Colours used to show depth in the painting
- (2) Bright Colour patches
- (3) Proper light and shades
- (4) Wash technique

Options :

- 212807127965. 1
- 212807127966. 2
- 212807127967. 3
- 212807127968. 4

Question Number : 612 Question Id : 21280731992 Question Type : MCQ Option Shuffling : No Is Question Mandatory : No Calculator : None Response Time : N.A Think Time : N.A Minimum Instruction Time : 0

Correct Marks : 5 Wrong Marks : 1

Question Key Details :

Key	Value
Comprehension	Comp1

इस चित्र का अवलेकन करें और उसके बाद दिए गए प्रश्न का उत्तर दीजिए :



इस चित्रकला में प्रयुक्त रंग-तकनीक क्या है ?

- (1) चित्र में गहराई दिखाने के लिए रंगों का उपयोग
- (2) चमकदार रंगों के खंड
- (3) समुचित प्रकाश और छायाएँ
- (4) वाश तकनीक

Options :

212807127965. 1

212807127966. 2

212807127967. 3

212807127968. 4

Question Number : 613 Question Id : 21280731993 Question Type : MCQ Option Shuffling : No Is Question Mandatory : No Calculator : None Response Time : N.A Think Time : N.A Minimum Instruction Time : 0

Correct Marks : 5 Wrong Marks : 1

Question Key Details :

Key	Value
Comprehension	Compl

Observe the image and answer the questions given below :



What is the style of this painting ?

- (1) Folk & Symbolic
- (2) Abstract
- (3) Realistic
- (4) Semi-Abstract

Options :

- 212807127969. 1
- 212807127970. 2
- 212807127971. 3
- 212807127972. 4

Question Number : 613 Question Id : 21280731993 Question Type : MCQ Option Shuffling : No Is Question Mandatory : No Calculator : None Response Time : N.A Think Time : N.A Minimum Instruction Time : 0

Correct Marks : 5 Wrong Marks : 1

Question Key Details :

Key	Value
Comprehension	Comp1

इस चित्र का अवलेकन करें और उसके बाद दिए गए प्रश्न का उत्तर दीजिए :



इस चित्र की क्या शैली है ?

- (1) लोक और प्रतीकात्मक
- (2) अमूर्त
- (3) यथार्थवादी
- (4) अर्ध-अमूर्तन

Options :

212807127969. 1

212807127970. 2

212807127971. 3

212807127972. 4

Question Number : 614 Question Id : 21280731994 Question Type : MCQ Option Shuffling : No Is Question Mandatory : No Calculator : None
Response Time : N.A Think Time : N.A Minimum Instruction Time : 0

Correct Marks : 5 Wrong Marks : 1

Question Key Details :

Key	Value
Comprehension	Comp1

Observe the image and answer the questions given below :



In which year this painting was executed ?

- (1) 1930
- (2) 1940
- (3) 1980
- (4) 1960

Options :

- 212807127973. 1
- 212807127974. 2
- 212807127975. 3
- 212807127976. 4

Question Number : 614 Question Id : 21280731994 Question Type : MCQ Option Shuffling : No Is Question Mandatory : No Calculator : None Response Time : N.A Think Time : N.A Minimum Instruction Time : 0

Correct Marks : 5 Wrong Marks : 1

Question Key Details :

Key	Value
Comprehension	Comp1

इस चित्र का अवलेकन करें और उसके बाद दिए गए प्रश्न का उत्तर दीजिए :



यह चित्र किस वर्ष में बनाया गया था ?

- (1) 1930
- (2) 1940
- (3) 1980
- (4) 1960

Options :

212807127973. 1

212807127974. 2

212807127975. 3

212807127976. 4

Question Number : 615 Question Id : 21280731995 Question Type : MCQ Option Shuffling : No Is Question Mandatory : No Calculator : None Response Time : N.A Think Time : N.A Minimum Instruction Time : 0

Correct Marks : 5 Wrong Marks : 1

Question Key Details :

Key	Value
Comprehension	Compl

Observe the image and answer the questions given below :



The theme of this painting is based on :

- (1) Idyllic rural scene
- (2) Indian mythological stories
- (3) Life in cities
- (4) Ashta nayikas depiction

Options :

- 212807127977. 1
- 212807127978. 2
- 212807127979. 3
- 212807127980. 4

Question Number : 615 Question Id : 21280731995 Question Type : MCQ Option Shuffling : No Is Question Mandatory : No Calculator : None Response Time : N.A Think Time : N.A Minimum Instruction Time : 0

Correct Marks : 5 Wrong Marks : 1

Question Key Details :

Key	Value
Comprehension	Comp1

इस चित्र का अवलेकन करें और उसके बाद दिए गए प्रश्न का उत्तर दीजिए :



इस चित्र का कथानक/थीम निम्न पर में किस आधारित है ?

- (1) आदर्श ग्राम्य दृश्य
- (2) भारतीय पौराणिक कथाएँ
- (3) नगरों का जीवन
- (4) अष्टनायिकाओं का प्रदर्शन

Options :

212807127977. 1

212807127978. 2

212807127979. 3

212807127980. 4

Sub-Section Number :

3

Sub-Section Id :

2128072522

Question Shuffling Allowed :

No

Is Section Default? :

null


Question Number : 616 Question Id : 21280731996 Question Type : MCQ Option Shuffling : No Is Question Mandatory : No Calculator : None Response Time : N.A Think Time : N.A Minimum Instruction Time : 0

Correct Marks : 5 Wrong Marks : 1

Question Key Details :

Key	Value
Comprehension	Comp2

Observe the image and answer the following questions :



This painting represents which type of art style ?

- (1) Warli
- (2) Pithoro
- (3) Gond
- (4) Phads

Options :

212807127981. 1

212807127982. 2

212807127983. 3

212807127984. 4


Question Number : 616 Question Id : 21280731996 Question Type : MCQ Option Shuffling : No Is Question Mandatory : No Calculator : None Response Time : N.A Think Time : N.A Minimum Instruction Time : 0

Correct Marks : 5 Wrong Marks : 1

Question Key Details :

Key	Value
Comprehension	Comp2

इस चित्र का अवलेकन कीजिए और उसके बाद दिए गए प्रश्न का उत्तर दीजिए :



यह चित्र किस प्रकार के कला रूप/शैली का प्रतिनिधित्व करती है ?

- (1) वली
- (2) पिथोरो
- (3) गोंड
- (4) फड़

Options :

212807127981. 1
212807127982. 2
212807127983. 3
212807127984. 4


Question Number : 617 Question Id : 21280731997 Question Type : MCQ Option Shuffling : No Is Question Mandatory : No Calculator : None Response Time : N.A Think Time : N.A Minimum Instruction Time : 0

Correct Marks : 5 Wrong Marks : 1

Question Key Details :

Key	Value
Comprehension	Comp2

Observe the image and answer the following questions :



Traditionally these paintings are done on which surface ?

- (1) Cotton clothes
- (2) Walls of houses
- (3) Canvas
- (4) Palm leaves

Options :

212807127985. 1

212807127986. 2

212807127987. 3

212807127988. 4


Question Number : 617 Question Id : 21280731997 Question Type : MCQ Option Shuffling : No Is Question Mandatory : No Calculator : None Response Time : N.A Think Time : N.A Minimum Instruction Time : 0

Correct Marks : 5 Wrong Marks : 1

Question Key Details :

Key	Value
Comprehension	Comp2

इस चित्र का अवलेकन कीजिए और उसके बाद दिए गए प्रश्न का उत्तर दीजिए :



परम्परागत रूप से ये चित्रकला किस प्रकार की सतह पर की जाती है ?

- (1) सूती वस्त्र
- (2) घरों की दीवार
- (3) कैनवस
- (4) ताड़ पत्र

Options :

212807127985. 1
212807127986. 2
212807127987. 3
212807127988. 4


Question Number : 618 Question Id : 21280731998 Question Type : MCQ Option Shuffling : No Is Question Mandatory : No Calculator : None Response Time : N.A Think Time : N.A Minimum Instruction Time : 0

Correct Marks : 5 Wrong Marks : 1

Question Key Details :

Key	Value
Comprehension	Comp2

Observe the image and answer the following questions :



These traditional art forms are practised by which of the following community ?

- (1) Gujjars
- (2) Gond Tribe
- (3) Rathva Bhils
- (4) Warli Community

Options :

212807127989. 1

212807127990. 2

212807127991. 3

212807127992. 4


Question Number : 618 Question Id : 21280731998 Question Type : MCQ Option Shuffling : No Is Question Mandatory : No Calculator : None Response Time : N.A Think Time : N.A Minimum Instruction Time : 0

Correct Marks : 5 Wrong Marks : 1

Question Key Details :

Key	Value
Comprehension	Comp2

इस चित्र का अवलेकन कीजिए और उसके बाद दिए गए प्रश्न का उत्तर दीजिए :



ये परम्परागत कला रूप किस समुदाय द्वारा बनाए जाते हैं ?

- (1) गुज्जर
- (2) गोंड जनजाति
- (3) रथ्वा भीळ
- (4) वर्ली समुदाय

Options :

212807127989. 1
212807127990. 2
212807127991. 3
212807127992. 4


Question Number : 619 Question Id : 21280731999 Question Type : MCQ Option Shuffling : No Is Question Mandatory : No Calculator : None Response Time : N.A Think Time : N.A Minimum Instruction Time : 0

Correct Marks : 5 Wrong Marks : 1

Question Key Details :

Key	Value
Comprehension	Comp2

Observe the image and answer the following questions :



What is the theme of the painting ?

- (1) Rural folk busy in various activities
- (2) Wedding precession
- (3) Battle scene
- (4) Travel story

Options :

212807127993. 1

212807127994. 2

212807127995. 3

212807127996. 4


Question Number : 619 Question Id : 21280731999 Question Type : MCQ Option Shuffling : No Is Question Mandatory : No Calculator : None Response Time : N.A Think Time : N.A Minimum Instruction Time : 0

Correct Marks : 5 Wrong Marks : 1

Question Key Details :

Key	Value
Comprehension	Comp2

इस चित्र का अवलेकन कीजिए और उसके बाद दिए गए प्रश्न का उत्तर दीजिए :



इस चित्र का थीम/कथानक क्या है ?

- (1) विभिन्न गतिविधियों में व्यस्त ग्रामीण लोग
- (2) पिथोरो की बारात
- (3) युद्ध दृश्य
- (4) यात्रा कथा

Options :

212807127993. 1
212807127994. 2
212807127995. 3
212807127996. 4


Question Number : 620 Question Id : 21280732000 Question Type : MCQ Option Shuffling : No Is Question Mandatory : No Calculator : None Response Time : N.A Think Time : N.A Minimum Instruction Time : 0

Correct Marks : 5 Wrong Marks : 1

Question Key Details :

Key	Value
Comprehension	Comp2

Observe the image and answer the following questions :



Name the State in which these traditional art style are in practice.

- (1) Sikkim
- (2) Uttar Pradesh
- (3) West Bengal
- (4) Gujarat

Options :

- 212807127997. 1
- 212807127998. 2
- 212807127999. 3
- 212807128000. 4


Question Number : 620 Question Id : 21280732000 Question Type : MCQ Option Shuffling : No Is Question Mandatory : No Calculator : None Response Time : N.A Think Time : N.A Minimum Instruction Time : 0

Correct Marks : 5 Wrong Marks : 1

Question Key Details :

Key	Value
Comprehension	Comp2

इस चित्र का अवलेकन कीजिए और उसके बाद दिए गए प्रश्न का उत्तर दीजिए :



उस राज्य का नाम बताइए जहाँ यह परम्परागत कला रूप प्रचलित है ?

- (1) सिक्किम
- (2) उत्तरप्रदेश
- (3) पश्चिम बंगाल
- (4) गुजरात

Options :

212807127997. 1
212807127998. 2
212807127999. 3
212807128000. 4

Sub-Section Number : 4
Sub-Section Id : 2128072523
Question Shuffling Allowed : Yes
Is Section Default? : null

Question Number : 621 **Question Id :** 21280732001 **Question Type :** MCQ **Option Shuffling :** No **Is Question Mandatory :** No **Calculator :** None
Response Time : N.A **Think Time :** N.A **Minimum Instruction Time :** 0
Correct Marks : 5 **Wrong Marks :** 1

Question Key Details :

Key	Value
Comprehension	MCQ2

Arrange the following paintings in chronological order :

- (A) Babur inspecting the fort of Gwalior
- (B) Prince of the house of Timur
- (C) A prince and Hermit
- (D) Tutinama : The girl and the parrot
- (E) Madonna and Child

Choose the correct answer from the options given below :

- (1) (A), (B), (C), (D), (E)
- (2) (E), (A), (C), (D), (B)
- (3) (B), (D), (E), (C), (A)
- (4) (A), (B), (D), (C), (E)

Options :

- 212807128001. 1
- 212807128002. 2
- 212807128003. 3
- 212807128004. 4

Question Number : 621 Question Id : 21280732001 Question Type : MCQ Option Shuffling : No Is Question Mandatory : No Calculator : None Response Time : N.A Think Time : N.A Minimum Instruction Time : 0

Correct Marks : 5 Wrong Marks : 1

Question Key Details :

Key	Value
Comprehension	MCQ2

निम्नलिखित चित्रों को कालक्रम के अनुसार व्यवस्थित कीजिए :

- (A) बाबर द्वारा ग्वालियर के किले का निरीक्षण
- (B) तैमूर के घराने का राजकुमार
- (C) एक राजकुमार और एक सन्त
- (D) तूतीनामा: लड़की और तोता
- (E) मैडोना और बच्चा

नीचे दिए गए विकल्पों में से सही उत्तर का चयन कीजिए :

- (1) (A), (B), (C), (D), (E)
- (2) (E), (A), (C), (D), (B)
- (3) (B), (D), (E), (C), (A)
- (4) (A), (B), (D), (C), (E)

Options :

- 212807128001. 1
- 212807128002. 2
- 212807128003. 3
- 212807128004. 4

Question Number : 622 Question Id : 21280732002 Question Type : MCQ Option Shuffling : No Is Question Mandatory : No Calculator : None Response Time : N.A Think Time : N.A Minimum Instruction Time : 0

Correct Marks : 5 Wrong Marks : 1

Question Key Details :

Key	Value
Comprehension	MCQ2

Arrange the Sub Schools in chronological order :

- (A) Kangra
- (B) Bijapur
- (C) Golconda
- (D) Guler
- (E) Ahmadnagar

Choose the correct answer from the options given below :

- (1) (C), (E), (B), (D), (A)
- (2) (A), (B), (C), (E), (D)
- (3) (A), (E), (D), (B), (C)
- (4) (A), (D), (B), (C), (E)

Options :

- 212807128005. 1
- 212807128006. 2
- 212807128007. 3
- 212807128008. 4

Question Number : 622 Question Id : 21280732002 Question Type : MCQ Option Shuffling : No Is Question Mandatory : No Calculator : None Response Time : N.A Think Time : N.A Minimum Instruction Time : 0

Correct Marks : 5 Wrong Marks : 1

Question Key Details :

Key	Value
Comprehension	MCQ2

इन उपशैलियों को कालक्रम के अनुसार व्यवस्थित कीजिए :

- (A) कांगड़ा
- (B) बीजापुर
- (C) गोलकुन्डा
- (D) गुलेर
- (E) अहमदनगर

नीचे दिए गए विकल्पों में से सही उत्तर का चयन कीजिए :

- (1) (C), (E), (B), (D), (A)
- (2) (A), (B), (C), (E), (D)
- (3) (A), (E), (D), (B), (C)
- (4) (A), (D), (B), (C), (E)

Options :

- 212807128005. 1
- 212807128006. 2
- 212807128007. 3
- 212807128008. 4

Question Number : 623 Question Id : 21280732003 Question Type : MCQ Option Shuffling : No Is Question Mandatory : No Calculator : None Response Time : N.A Think Time : N.A Minimum Instruction Time : 0

Correct Marks : 5 Wrong Marks : 1

Question Key Details :

Key	Value
Comprehension	MCQ2

Identify the correct chronological order of the following paintings :

- (A) City for sale
- (B) Farmer's family
- (C) Doodle
- (D) Hungry Bengal
- (E) The Dog

Choose the correct answer from the options given below :

- (1) (A), (B), (C), (D), (E)
- (2) (C), (B), (D), (E), (A)
- (3) (D), (A), (C), (B), (E)
- (4) (E), (A), (B), (C), (D)

Options :

- 212807128009. 1
- 212807128010. 2
- 212807128011. 3
- 212807128012. 4

Question Number : 623 Question Id : 21280732003 Question Type : MCQ Option Shuffling : No Is Question Mandatory : No Calculator : None Response Time : N.A Think Time : N.A Minimum Instruction Time : 0

Correct Marks : 5 Wrong Marks : 1

Question Key Details :

Key	Value
Comprehension	MCQ2

निम्नलिखित चित्रों के सही कालक्रम की पहचान कीजिए :

- (A) सिटी फार सेल (बिक्री के लिए शहर)
- (B) फारमर्स फेमिली (किसान का परिवार)
- (C) डूडल
- (D) हंगरी बंगाल (भूखा बंगाल)
- (E) द डॉग (कुत्ता)

नीचे दिए गए विकल्पों में से सही उत्तर का चयन कीजिए :

- (1) (A), (B), (C), (D), (E)
- (2) (C), (B), (D), (E), (A)
- (3) (D), (A), (C), (B), (E)
- (4) (E), (A), (B), (C), (D)

Options :

- 212807128009. 1
- 212807128010. 2
- 212807128011. 3
- 212807128012. 4

Question Number : 624 Question Id : 21280732004 Question Type : MCQ Option Shuffling : No Is Question Mandatory : No Calculator : None Response Time : N.A Think Time : N.A Minimum Instruction Time : 0

Correct Marks : 5 Wrong Marks : 1

Question Key Details :

Key	Value
Comprehension	MCQ2

Select the correct chronological order of Etching printmaking process :

- (A) Inking the plate
- (B) Drawing with needle
- (C) Dipping plate in etchant
- (D) Applying etchant ground
- (E) Biting of metal plate

Choose the correct answer from the options given below :

- (1) (A), (B), (C), (D), (E)
- (2) (B), (A), (D), (C), (E)
- (3) (A), (D), (E), (B), (C)
- (4) (D), (B), (C), (E), (A)

Options :

- 212807128013. 1
- 212807128014. 2
- 212807128015. 3
- 212807128016. 4

Question Number : 624 Question Id : 21280732004 Question Type : MCQ Option Shuffling : No Is Question Mandatory : No Calculator : None Response Time : N.A Think Time : N.A Minimum Instruction Time : 0

Correct Marks : 5 Wrong Marks : 1

Question Key Details :

Key	Value
Comprehension	MCQ2

उत्कीर्णित छाया निर्माण प्रक्रिया को सही कालक्रम में व्यवस्थित करें :

- (A) प्लेट पर स्याही लगाना
- (B) सूई से आकृति बनाना
- (C) निक्षारक में प्लेट को डुबाना
- (D) ग्राइंड को लगाना
- (E) धातु की प्लेट का अम्लोत्पन्न

नीचे दिए गए विकल्पों में से सही उत्तर का चयन कीजिए :

- (1) (A), (B), (C), (D), (E)
- (2) (B), (A), (D), (C), (E)
- (3) (A), (D), (E), (B), (C)
- (4) (D), (B), (C), (E), (A)

Options :

- 212807128013. 1
- 212807128014. 2
- 212807128015. 3
- 212807128016. 4

Question Number : 625 Question Id : 21280732005 Question Type : MCQ Option Shuffling : No Is Question Mandatory : No Calculator : None Response Time : N.A Think Time : N.A Minimum Instruction Time : 0

Correct Marks : 5 Wrong Marks : 1

Question Key Details :

Key	Value
Comprehension	MCQ2

Select the correct chronological sequence of artists according to their birth.

- (A) Gaganendranath Tagore
- (B) Abanindranath Tagore
- (C) Jamini Roy
- (D) Debi Prasad Roy Chowdhury
- (E) Laxma Goud

Choose the correct answer from the options given below :

- (1) (B), (A), (C), (E), (D)
- (2) (D), (B), (A), (C), (E)
- (3) (C), (A), (B), (E), (D)
- (4) (A), (B), (C), (D), (E)

Options :

- 212807128017. 1
- 212807128018. 2
- 212807128019. 3
- 212807128020. 4

Question Number : 625 Question Id : 21280732005 Question Type : MCQ Option Shuffling : No Is Question Mandatory : No Calculator : None Response Time : N.A Think Time : N.A Minimum Instruction Time : 0

Correct Marks : 5 Wrong Marks : 1

Question Key Details :

Key	Value
Comprehension	MCQ2

नीचे दिए गए कलाकारों को उनके जन्म के अनुसार सही कालक्रम में लगाइए :

- (A) गगनेन्द्रनाथ टैगोर
- (B) अबनीन्द्रनाथ टैगोर
- (C) जामिनी रॉय
- (D) देबीप्रसाद रॉय चौधुरी
- (E) लक्ष्मा गौड़

नीचे दिए गए विकल्पों में से सही उत्तर का चयन कीजिए :

- (1) (B), (A), (C), (E), (D)
- (2) (D), (B), (A), (C), (E)
- (3) (C), (A), (B), (E), (D)
- (4) (A), (B), (C), (D), (E)

Options :

- 212807128017. 1
- 212807128018. 2
- 212807128019. 3
- 212807128020. 4

Question Number : 626 Question Id : 21280732006 Question Type : MCQ Option Shuffling : No Is Question Mandatory : No Calculator : None Response Time : N.A Think Time : N.A Minimum Instruction Time : 0

Correct Marks : 5 Wrong Marks : 1

Question Key Details :

Key	Value
Comprehension	MCQ2

Characteristic features of Kangra style of painting are :

- (A) Kangra painters used oil colours in the paintings.
- (B) Brilliance of colour and miniatures of decorative details.
- (C) Figures with thick black outlines
- (D) Acutely observed the landscape and represented it naturalistically.
- (E) Each painting has its corresponding text written on top

Choose the **correct** answer from the options given below :

- (1) (C) and (E) only
- (2) (B) and (D) only
- (3) (A) and (C) only
- (4) (A) and (E) only

Options :

- 212807128021. 1
- 212807128022. 2
- 212807128023. 3
- 212807128024. 4

Question Number : 626 Question Id : 21280732006 Question Type : MCQ Option Shuffling : No Is Question Mandatory : No Calculator : None Response Time : N.A Think Time : N.A Minimum Instruction Time : 0

Correct Marks : 5 Wrong Marks : 1

Question Key Details :

Key	Value
Comprehension	MCQ2

कांगड़ा चित्रकला शैली की लाक्षणिक विशेषताएँ हैं :

- (A) कांगड़ा के चित्रकारों ने अपनी चित्रकलाओं में तैल रंगों का उपयोग किया।
- (B) रंगों की चमक/तेजस्विता और अलंकरण विवरणों की सूक्ष्मता।
- (C) आकृतियों पर मोटी काली बाह्य रेखाएँ।
- (D) दृश्यावलियों का पैना अवलोकन और उनकी स्वाभाविक ढंग से प्रस्तुति।
- (E) हर चित्रकला के ऊपर उससे सम्बन्धित शब्द लिखे हुए हैं।

नीचे दिए गए विकल्पों में से **सही** उत्तर का चयन कीजिए :

- (1) केवल (C) और (E)
- (2) केवल (B) और (D)
- (3) केवल (A) और (C)
- (4) केवल (A) और (E)

Options :

- 212807128021. 1
- 212807128022. 2
- 212807128023. 3
- 212807128024. 4

Question Number : 627 Question Id : 21280732007 Question Type : MCQ Option Shuffling : No Is Question Mandatory : No Calculator : None Response Time : N.A Think Time : N.A Minimum Instruction Time : 0

Correct Marks : 5 Wrong Marks : 1

Question Key Details :

Key	Value
Comprehension	MCQ2

Company style of painting is a mixture of which of the following styles ?

- (A) Folk style of painting
- (B) Indian traditional style of painting
- (C) Pattachitra
- (D) Madhubani style of painting
- (E) European style of painting

Choose the correct answer from the options given below :

- (1) (C) and (D) only
- (2) (A) and (C) only
- (3) (B) and (E) only
- (4) (A) and (B) only

Options :

- 212807128025. 1
- 212807128026. 2
- 212807128027. 3
- 212807128028. 4

Question Number : 627 Question Id : 21280732007 Question Type : MCQ Option Shuffling : No Is Question Mandatory : No Calculator : None Response Time : N.A Think Time : N.A Minimum Instruction Time : 0

Correct Marks : 5 Wrong Marks : 1

Question Key Details :

Key	Value
Comprehension	MCQ2

कम्पनी चित्रकला शैली में चित्रकला की किन शैलियों का मिश्रण है ?

- (A) चित्रकला की लोक शैली
- (B) चित्रकला की भारतीय पारम्परिक शैली
- (C) पट्टचित्र
- (D) चित्रकला का मधुबनी शैली
- (E) चित्रकला की यूरोपीय शैली

नीचे दिए गए विकल्पों में से सही उत्तर का चयन कीजिए :

- (1) केवल (C) और (D)
- (2) केवल (A) और (C)
- (3) केवल (B) और (E)
- (4) केवल (A) और (B)

Options :

- 212807128025. 1
- 212807128026. 2
- 212807128027. 3
- 212807128028. 4

Question Number : 628 Question Id : 21280732008 Question Type : MCQ Option Shuffling : No Is Question Mandatory : No Calculator : None Response Time : N.A Think Time : N.A Minimum Instruction Time : 0

Correct Marks : 5 Wrong Marks : 1

Question Key Details :

Key	Value
Comprehension	MCQ2

Identify the artists of Mughal School of painting.

- (A) Devidas
- (B) Nihal Chand
- (C) Abd us Samad
- (D) Sahibdin
- (E) Bihzad

Choose the correct answer from the options given below :

- (1) (A) and (D) only
- (2) (C) and (E) only
- (3) (B) and (D) only
- (4) (A) and (B) only

Options :

- 212807128029. 1
- 212807128030. 2
- 212807128031. 3
- 212807128032. 4

Question Number : 628 Question Id : 21280732008 Question Type : MCQ Option Shuffling : No Is Question Mandatory : No Calculator : None Response Time : N.A Think Time : N.A Minimum Instruction Time : 0

Correct Marks : 5 Wrong Marks : 1

Question Key Details :

Key	Value
Comprehension	MCQ2

मुगल चित्रकला शैली के कलाकारों की पहचान कीजिए :

- (A) देवीदास
- (B) निहालचन्द
- (C) अब्द उस समद
- (D) साहिबदीन
- (E) बिहजाद

नीचे दिए गए विकल्पों में से सही उत्तर का चयन कीजिए :

- (1) केवल (A) और (D)
- (2) केवल (C) और (E)
- (3) केवल (B) और (D)
- (4) केवल (A) और (B)

Options :

- 212807128029. 1
- 212807128030. 2
- 212807128031. 3
- 212807128032. 4

Question Number : 629 Question Id : 21280732009 Question Type : MCQ Option Shuffling : No Is Question Mandatory : No Calculator : None Response Time : N.A Think Time : N.A Minimum Instruction Time : 0

Correct Marks : 5 Wrong Marks : 1

Question Key Details :

Key	Value
Comprehension	MCQ2

Among the following which are the popular themes of Basohli painters

- (A) Ragamala
- (B) Idyllic Rural Scene
- (C) Hamza Nama
- (D) Razm Nama
- (E) Bhagvata Puran

Choose the correct answer from the options given below :

- (1) (C) and (D) only
- (2) (A) and (B) only
- (3) (A) and (E) only
- (4) (B) and (C) only

Options :

212807128033. 1

212807128034. 2

212807128035. 3

212807128036. 4

Question Number : 629 Question Id : 21280732009 Question Type : MCQ Option Shuffling : No Is Question Mandatory : No Calculator : None Response Time : N.A Think Time : N.A Minimum Instruction Time : 0

Correct Marks : 5 Wrong Marks : 1

Question Key Details :

Key	Value
Comprehension	MCQ2

निम्नलिखित में से कौन बसोहली चित्रकारों के बीच लोकप्रिय कथानक/थीम है ?

- (A) रांगमाला
- (B) परितोषित ग्रामीण दृश्य
- (C) हम्जा-नामा
- (D) रज्म नामा
- (E) भागवत पुराण

नीचे दिए गए विकल्पों में से सही उत्तर का चयन कीजिए :

- (1) केवल (C) और (D)
- (2) केवल (A) और (B)
- (3) केवल (A) और (E)
- (4) केवल (B) और (C)

Options :

212807128033. 1

212807128034. 2

212807128035. 3

212807128036. 4

Question Number : 630 Question Id : 21280732010 Question Type : MCQ Option Shuffling : No Is Question Mandatory : No Calculator : None Response Time : N.A Think Time : N.A Minimum Instruction Time : 0

Correct Marks : 5 Wrong Marks : 1

Question Key Details :

Key	Value
Comprehension	MCQ2

Identify the artists, who developed a new technique in printmaking known as 'Viscosity Printing'.

- (A) Somnath Hore
- (B) Krishna Reddy
- (C) K. G. Subramanyan
- (D) Stanley William Hyter
- (E) Jyoti Bhatt

Choose the correct answer from the options given below :

- (1) (B) and (D) only
- (2) (A) and (E) only
- (3) (B) and (C) only
- (4) (A) and (D) only

Options :

- 212807128037. 1
- 212807128038. 2
- 212807128039. 3
- 212807128040. 4

Question Number : 630 Question Id : 21280732010 Question Type : MCQ Option Shuffling : No Is Question Mandatory : No Calculator : None Response Time : N.A Think Time : N.A Minimum Instruction Time : 0

Correct Marks : 5 Wrong Marks : 1

Question Key Details :

Key	Value
Comprehension	MCQ2

उस कलाकार का नाम बताइए जिसने छापा बनाने की एक नई तकनीक, 'विस्कोसीटी मुद्रण' की विकास किया।

- (A) सोमनाथ होर
- (B) कृष्णा रेड्डी
- (C) के. जी. सुब्रमण्यम
- (D) स्टैनले विलियम हेटर
- (E) ज्योति भट्ट

नीचे दिए गए विकल्पों में से सही उत्तर का चयन कीजिए :

- (1) केवल (B) और (D)
- (2) केवल (A) और (E)
- (3) केवल (B) और (C)
- (4) केवल (A) और (D)

Options :

- 212807128037. 1
- 212807128038. 2
- 212807128039. 3
- 212807128040. 4

Question Number : 631 Question Id : 21280732011 Question Type : MCQ Option Shuffling : No Is Question Mandatory : No Calculator : None Response Time : N.A Think Time : N.A Minimum Instruction Time : 0

Correct Marks : 5 Wrong Marks : 1

Question Key Details :

Key	Value
Comprehension	MCQ2

Match List - I with List - II.

List - I	List - II
(A) Ragnala (Chunar)	(I) Kishangarh
(B) Bani-Thani	(II) Mewar
(C) Maru-Ragini	(III) Jodhpur
(D) Chaugan Players	(IV) Bundi

Choose the correct answer from the options given below :

- (1) (A)-(III), (B)-(IV), (C)-(II), (D)-(I)
- (2) (A)-(IV), (B)-(II), (C)-(I), (D)-(III)
- (3) (A)-(IV), (B)-(I), (C)-(II), (D)-(III)
- (4) (A)-(III), (B)-(II), (C)-(I), (D)-(IV)

Options :

212807128041. 1
212807128042. 2
212807128043. 3
212807128044. 4

Question Number : 631 Question Id : 21280732011 Question Type : MCQ Option Shuffling : No Is Question Mandatory : No Calculator : None Response Time : N.A Think Time : N.A Minimum Instruction Time : 0

Correct Marks : 5 Wrong Marks : 1

Question Key Details :

Key	Value
Comprehension	MCQ2

सूची-I से सूची-II का मिलान कीजिए :

सूची-I	सूची-II
(A) रागमाला (चुनार)	(I) किशनगढ़
(B) बनी-ठनी	(II) मेवाड़
(C) मारू-रागिनी	(III) जोधपुर
(D) चौगन प्लेयर्स	(IV) बूंदी

नीचे दिए गए विकल्पों में से सही उत्तर का चयन कीजिए :

- (1) (A)-(III), (B)-(IV), (C)-(II), (D)-(I)
- (2) (A)-(IV), (B)-(II), (C)-(I), (D)-(III)
- (3) (A)-(IV), (B)-(I), (C)-(II), (D)-(III)
- (4) (A)-(III), (B)-(II), (C)-(I), (D)-(IV)

Options :

212807128041. 1
212807128042. 2
212807128043. 3
212807128044. 4

Question Number : 632 Question Id : 21280732012 Question Type : MCQ Option Shuffling : No Is Question Mandatory : No Calculator : None Response Time : N.A Think Time : N.A Minimum Instruction Time : 0

Correct Marks : 5 Wrong Marks : 1

Question Key Details :

Key	Value
Comprehension	MCQ2

Match List - I with List - II.

List - I	List - II
(A) Baburnama	(I) Humayun
(B) Razm Nama	(II) Babur
(C) Humza Nama	(III) Akbar
(D) Twzuk-i-Jahangiri	(IV) Jahangir

Choose the correct answer from the options given below :

- (1) (A)-(II), (B)-(III), (C)-(I), (D)-(IV)
- (2) (A)-(II), (B)-(IV), (C)-(III), (D)-(I)
- (3) (A)-(I), (B)-(II), (C)-(IV), (D)-(III)
- (4) (A)-(I), (B)-(III), (C)-(II), (D)-(IV)

Options :

212807128045. 1
212807128046. 2
212807128047. 3
212807128048. 4

Question Number : 632 Question Id : 21280732012 Question Type : MCQ Option Shuffling : No Is Question Mandatory : No Calculator : None
Response Time : N.A Think Time : N.A Minimum Instruction Time : 0

Correct Marks : 5 Wrong Marks : 1

Question Key Details :

Key	Value
Comprehension	MCQ2

सूची-I से सूची-II का मिलान कीजिए :

सूची-I	सूची-II
(A) बाबरनामा	(I) हुमायूं
(B) रज़्मनामा	(II) बाबर
(C) हम्ज़ानामा	(III) अकबर
(D) त्रुजुक-ए-जहाँगीरी	(IV) जहाँगीर

नीचे दिए गए विकल्पों में से सही उत्तर का चयन कीजिए :

- (1) (A)-(II), (B)-(III), (C)-(I), (D)-(IV)
- (2) (A)-(II), (B)-(IV), (C)-(III), (D)-(I)
- (3) (A)-(I), (B)-(II), (C)-(IV), (D)-(III)
- (4) (A)-(I), (B)-(III), (C)-(II), (D)-(IV)

Options :

212807128045. 1
212807128046. 2
212807128047. 3
212807128048. 4

Question Number : 633 Question Id : 21280732013 Question Type : MCQ Option Shuffling : No Is Question Mandatory : No Calculator : None
Response Time : N.A Think Time : N.A Minimum Instruction Time : 0

Correct Marks : 5 Wrong Marks : 1

Question Key Details :

Key	Value
Comprehension	MCQ2

Match List - I with List - II.

List - I	List - II
(A) Children	(I) Bronze sculpture
(B) Haldi Grinder	(II) Graphic print
(C) Triumph of Labour	(III) Copper sculpture
(D) Ganesha	(IV) Painting

Choose the correct answer from the options given below :

- (1) (A)-(I), (B)-(II), (C)-(IV), (D)-(III)
- (2) (A)-(III), (B)-(IV), (C)-(II), (D)-(I)
- (3) (A)-(II), (B)-(IV), (C)-(I), (D)-(III)
- (4) (A)-(IV), (B)-(I), (C)-(II), (D)-(III)

Options :

212807128049. 1
212807128050. 2
212807128051. 3
212807128052. 4

Question Number : 633 Question Id : 21280732013 Question Type : MCQ Option Shuffling : No Is Question Mandatory : No Calculator : None Response Time : N.A Think Time : N.A Minimum Instruction Time : 0

Correct Marks : 5 Wrong Marks : 1

Question Key Details :

Key	Value
Comprehension	MCQ2

सूची-I से सूची-II का मिलान कीजिए :

सूची-I	सूची-II
(A) बच्चे (चिल्ड्रन)	(I) कांसा मूर्तिशिल्प
(B) हल्दी ग्राइन्डर	(II) ग्राफिक छपाचित्र
(C) श्रम की विजय (ट्राएम्फ आफ लेबर)	(III) ताम्र मूर्तिशिल्प
(D) गणेश	(IV) चित्रकला

नीचे दिए गए विकल्पों में से सही उत्तर का चयन कीजिए :

- (1) (A)-(I), (B)-(II), (C)-(IV), (D)-(III)
- (2) (A)-(III), (B)-(IV), (C)-(II), (D)-(I)
- (3) (A)-(II), (B)-(IV), (C)-(I), (D)-(III)
- (4) (A)-(IV), (B)-(I), (C)-(II), (D)-(III)

Options :

212807128049. 1
212807128050. 2
212807128051. 3
212807128052. 4

Question Number : 634 Question Id : 21280732014 Question Type : MCQ Option Shuffling : No Is Question Mandatory : No Calculator : None Response Time : N.A Think Time : N.A Minimum Instruction Time : 0

Correct Marks : 5 Wrong Marks : 1

Question Key Details :

Key	Value
Comprehension	MCQ2

Match List - I with List - II.

List - I

- (A) Radhika
(B) Krishna Lifts Mount Govardhan
(C) Whirlpool
(D) Woman with child

List - II

- (I) Krishna Reddy
(II) Abdul Rehman Chughtai
(III) Jamini Roy
(IV) Miskin

Choose the correct answer from the options given below :

- (1) (A)-(II), (B)-(I), (C)-(III), (D)-(IV)
(2) (A)-(II), (B)-(IV), (C)-(I), (D)-(III)
(3) (A)-(I), (B)-(III), (C)-(II), (D)-(IV)
(4) (A)-(III), (B)-(II), (C)-(I), (D)-(IV)

Options :

212807128053. 1
212807128054. 2
212807128055. 3
212807128056. 4

Question Number : 634 Question Id : 21280732014 Question Type : MCQ Option Shuffling : No Is Question Mandatory : No Calculator : None
Response Time : N.A Think Time : N.A Minimum Instruction Time : 0

Correct Marks : 5 Wrong Marks : 1

Question Key Details :

Key	Value
Comprehension	MCQ2

सूची-I से सूची-II का मिलान कीजिए :

सूची-I

- (A) राधिका
(B) कृष्ण गोवर्धन पर्वत उठाए हुए
(C) भँवर (व्हाइलपूल)
(D) महिला बच्चा (वुमन विद चाइल्ड)

सूची-II

- (I) कृष्ण रेड्डी
(II) अब्दुल रहमान चुगताई
(III) जामिनी रॉय
(IV) मिस्किन

नीचे दिए गए विकल्पों में से सही उत्तर का चयन कीजिए :

- (1) (A)-(II), (B)-(I), (C)-(III), (D)-(IV)
(2) (A)-(II), (B)-(IV), (C)-(I), (D)-(III)
(3) (A)-(I), (B)-(III), (C)-(II), (D)-(IV)
(4) (A)-(III), (B)-(II), (C)-(I), (D)-(IV)

Options :

212807128053. 1
212807128054. 2
212807128055. 3
212807128056. 4

Question Number : 635 Question Id : 21280732015 Question Type : MCQ Option Shuffling : No Is Question Mandatory : No Calculator : None
Response Time : N.A Think Time : N.A Minimum Instruction Time : 0

Correct Marks : 5 Wrong Marks : 1

Question Key Details :

Key	Value
Comprehension	MCQ2

Match List - I with List - II.

List - I

- (A) National Gallery of Modern Art (NGMA)
- (B) Kala Bhavan
- (C) Metropolitan Museum of Art
- (D) Slade School of Fine Art

List - II

- (I) Shantiniketan
- (II) New York
- (III) New Delhi
- (IV) London

Choose the correct answer from the options given below :

- (1) (A)-(I), (B)-(II), (C)-(III), (D)-(IV)
- (2) (A)-(III), (B)-(I), (C)-(II), (D)-(IV)
- (3) (A)-(II), (B)-(III), (C)-(IV), (D)-(I)
- (4) (A)-(IV), (B)-(I), (C)-(II), (D)-(III)

Options :

- 212807128057. 1
- 212807128058. 2
- 212807128059. 3
- 212807128060. 4

Question Number : 635 Question Id : 21280732015 Question Type : MCQ Option Shuffling : No Is Question Mandatory : No Calculator : None Response Time : N.A Think Time : N.A Minimum Instruction Time : 0

Correct Marks : 5 Wrong Marks : 1

Question Key Details :

Key	Value
Comprehension	MCQ2

सूची-I से सूची-II का मिलान कीजिए :

सूची-I

- (A) राष्ट्रीय आधुनिक कला दीर्घा (NGMA)
- (B) कला भवन
- (C) मेट्रोपोलिटन कला संग्रहालय
- (D) स्लेडस्कूल आफ फाइन आर्ट

सूची-II

- (I) शांति निकेतन
- (II) न्यूयार्क
- (III) नई दिल्ली
- (IV) लन्दन

नीचे दिए गए विकल्पों में से सही उत्तर का चयन कीजिए :

- (1) (A)-(I), (B)-(II), (C)-(III), (D)-(IV)
- (2) (A)-(III), (B)-(I), (C)-(II), (D)-(IV)
- (3) (A)-(II), (B)-(III), (C)-(IV), (D)-(I)
- (4) (A)-(IV), (B)-(I), (C)-(II), (D)-(III)

Options :

- 212807128057. 1
- 212807128058. 2
- 212807128059. 3
- 212807128060. 4

Geography

Group Number :

19

Group Id :

212807743

Group Maximum Duration :

45

Group Minimum Duration :

45

Show Attended Group? :

No

Edit Attended Group? :

No

Break time : 0
Group Marks : 200
Is this Group for Examiner? : No
Examiner permission : Cant View
Show Progress Bar? : No

Geography

Section Id : 212807875
Section Number : 1
Section type : Online
Mandatory or Optional : Mandatory
Number of Questions : 50
Number of Questions to be attempted : 40
Section Marks : 200
Enable Mark as Answered Mark for Review and Clear Response : Yes
Maximum Instruction Time : 0
Sub-Section Number : 1
Sub-Section Id : 2128072524
Question Shuffling Allowed : Yes
Is Section Default? : null

Question Number : 636 Question Id : 21280732016 Question Type : MCQ Option Shuffling : No Is Question Mandatory : No Calculator : None
Response Time : N.A Think Time : N.A Minimum Instruction Time : 0

Correct Marks : 5 Wrong Marks : 1

Question Key Details :

Key	Value
Comprehension	MCQ

The humanisation of nature represents which of the following concept of man-environment relationship ?

- (1) Possibilism
- (2) Determinism
- (3) Neo-determinism
- (4) Probablism

Options :

212807128061. 1
212807128062. 2
212807128063. 3
212807128064. 4

Question Number : 636 Question Id : 21280732016 Question Type : MCQ Option Shuffling : No Is Question Mandatory : No Calculator : None
Response Time : N.A Think Time : N.A Minimum Instruction Time : 0

Correct Marks : 5 Wrong Marks : 1

Question Key Details :

Key	Value
Comprehension	MCQ

प्रकृति का मानवीकरण, निम्न में से, मानव-पर्यावरण अंतर्संबंध की किस अवधारणा को दर्शाता है?

- (1) संभववाद
- (2) निश्चयवाद
- (3) नव-निश्चयवाद
- (4) सम्भाव्यवाद

Options :

212807128061. 1
212807128062. 2

212807128063. 3
212807128064. 4

Question Number : 637 Question Id : 21280732017 Question Type : MCQ Option Shuffling : No Is Question Mandatory : No Calculator : None
Response Time : N.A Think Time : N.A Minimum Instruction Time : 0
Correct Marks : 5 Wrong Marks : 1

Question Key Details :

Key	Value
Comprehension	MCQ

The concept of Neo-determinism was propounded by _____.

- (1) Ellen C. Semple
- (2) Ratzel
- (3) Griffith Taylor
- (4) Vidal de la Blache

Options :

212807128065. 1
212807128066. 2
212807128067. 3
212807128068. 4

Question Number : 637 Question Id : 21280732017 Question Type : MCQ Option Shuffling : No Is Question Mandatory : No Calculator : None
Response Time : N.A Think Time : N.A Minimum Instruction Time : 0

Correct Marks : 5 Wrong Marks : 1

Question Key Details :

Key	Value
Comprehension	MCQ

नव-निश्चयवाद की अवधारणा _____ द्वारा प्रस्तुत की गई थी ?

- (1) एलन सी. सेम्पल
- (2) रैटजेल
- (3) ग्रिफिथ टेलर
- (4) विडाल डी ला ब्लाश

Options :

212807128065. 1
212807128066. 2
212807128067. 3
212807128068. 4

Question Number : 638 Question Id : 21280732018 Question Type : MCQ Option Shuffling : No Is Question Mandatory : No Calculator : None
Response Time : N.A Think Time : N.A Minimum Instruction Time : 0

Correct Marks : 5 Wrong Marks : 1

Question Key Details :

Key	Value
Comprehension	MCQ

_____ is a sub-field of economic geography.

- (1) Geography of Leisure
- (2) Geography of Election
- (3) Geography of Social Well-being
- (4) Geography of Tourism

Options :

212807128069. 1
212807128070. 2
212807128071. 3

Question Number : 638 Question Id : 21280732018 Question Type : MCQ Option Shuffling : No Is Question Mandatory : No Calculator : None
Response Time : N.A Think Time : N.A Minimum Instruction Time : 0

Correct Marks : 5 Wrong Marks : 1

Question Key Details :

Key	Value
Comprehension	MCQ

_____ आर्थिक भूगोल का एक उप-क्षेत्र है ?

- (1) अवकाश का भूगोल
- (2) निर्वाचन भूगोल
- (3) सामाजिक कल्याण का भूगोल
- (4) पर्यटन भूगोल

Options :

212807128069. 1
212807128070. 2
212807128071. 3
212807128072. 4

Question Number : 639 Question Id : 21280732019 Question Type : MCQ Option Shuffling : No Is Question Mandatory : No Calculator : None
Response Time : N.A Think Time : N.A Minimum Instruction Time : 0

Correct Marks : 5 Wrong Marks : 1

Question Key Details :

Key	Value
Comprehension	MCQ

Which of the following is an economic factor influencing the distribution of population ?

- (1) Landforms
- (2) Climate
- (3) Soil
- (4) Urbanisation

Options :

212807128073. 1
212807128074. 2
212807128075. 3
212807128076. 4

Question Number : 639 Question Id : 21280732019 Question Type : MCQ Option Shuffling : No Is Question Mandatory : No Calculator : None
Response Time : N.A Think Time : N.A Minimum Instruction Time : 0

Correct Marks : 5 Wrong Marks : 1

Question Key Details :

Key	Value
Comprehension	MCQ

निम्न में से कौन सा एक आर्थिक कारक, जनसंख्या वितरण को प्रभावित करता है ?

- (1) भू-आकृतियाँ
- (2) जलवायु
- (3) मृदा
- (4) नगरीकरण

Options :

212807128073. 1
212807128074. 2

212807128075. 3
212807128076. 4

Question Number : 640 Question Id : 21280732020 Question Type : MCQ Option Shuffling : No Is Question Mandatory : No Calculator : None
Response Time : N.A Think Time : N.A Minimum Instruction Time : 0
Correct Marks : 5 Wrong Marks : 1

Question Key Details :

Key	Value
Comprehension	MCQ

The push factor of migration of population is _____.

- (1) Better living conditions
- (2) Better job opportunities
- (3) Natural Disasters
- (4) Peace and stability

Options :

212807128077. 1
212807128078. 2
212807128079. 3
212807128080. 4

Question Number : 640 Question Id : 21280732020 Question Type : MCQ Option Shuffling : No Is Question Mandatory : No Calculator : None
Response Time : N.A Think Time : N.A Minimum Instruction Time : 0
Correct Marks : 5 Wrong Marks : 1

Question Key Details :

Key	Value
Comprehension	MCQ

_____ जनसंख्या प्रवास का प्रतिकर्ष कारक है।

- (1) रहन-सहन की बेहतर दशाएँ
- (2) काम के बेहतर अवसर
- (3) प्राकृतिक आपदाएँ
- (4) शान्ति और स्थायित्व

Options :

212807128077. 1
212807128078. 2
212807128079. 3
212807128080. 4

Question Number : 641 Question Id : 21280732021 Question Type : MCQ Option Shuffling : No Is Question Mandatory : No Calculator : None
Response Time : N.A Think Time : N.A Minimum Instruction Time : 0
Correct Marks : 5 Wrong Marks : 1

Question Key Details :

Key	Value
Comprehension	MCQ

In _____ years World Population increased from 6 billion to 7 billion.

- (1) 07
- (2) 30
- (3) 15
- (4) 12

Options :

212807128081. 1
212807128082. 2
212807128083. 3

Question Number : 641 Question Id : 21280732021 Question Type : MCQ Option Shuffling : No Is Question Mandatory : No Calculator : None
Response Time : N.A Think Time : N.A Minimum Instruction Time : 0

Correct Marks : 5 Wrong Marks : 1

Question Key Details :

Key	Value
Comprehension	MCQ

_____ वर्षों में विश्व जनसंख्या 6 अरब से 7 अरब हो गई।

- (1) 07
- (2) 30
- (3) 15
- (4) 12

Options :

212807128081. 1
212807128082. 2
212807128083. 3
212807128084. 4

Question Number : 642 Question Id : 21280732022 Question Type : MCQ Option Shuffling : No Is Question Mandatory : No Calculator : None
Response Time : N.A Think Time : N.A Minimum Instruction Time : 0

Correct Marks : 5 Wrong Marks : 1

Question Key Details :

Key	Value
Comprehension	MCQ

With respect to human development, continuity in the availability of opportunities means _____.

- (1) Equity
- (2) Sustainability
- (3) Productivity
- (4) Empowerment

Options :

212807128085. 1
212807128086. 2
212807128087. 3
212807128088. 4

Question Number : 642 Question Id : 21280732022 Question Type : MCQ Option Shuffling : No Is Question Mandatory : No Calculator : None
Response Time : N.A Think Time : N.A Minimum Instruction Time : 0

Correct Marks : 5 Wrong Marks : 1

Question Key Details :

Key	Value
Comprehension	MCQ

मानव विकास के संदर्भ में अवसरों की उपलब्धता में निरंतरता का अर्थ _____ है।

- (1) समता
- (2) सतत पोषणीयता
- (3) उत्पादकता
- (4) सशक्तिकरण

Options :

212807128085. 1
212807128086. 2

212807128087. 3
212807128088. 4

Question Number : 643 Question Id : 21280732023 Question Type : MCQ Option Shuffling : No Is Question Mandatory : No Calculator : None
Response Time : N.A Think Time : N.A Minimum Instruction Time : 0
Correct Marks : 5 Wrong Marks : 1

Question Key Details :

Key	Value
Comprehension	MCQ

Primitive subsistence agriculture named 'Ladang' is widely practised in _____.

- (1) Mexico
- (2) Indonesia
- (3) Central America
- (4) North eastern states of India

Options :

212807128089. 1
212807128090. 2
212807128091. 3
212807128092. 4

Question Number : 643 Question Id : 21280732023 Question Type : MCQ Option Shuffling : No Is Question Mandatory : No Calculator : None
Response Time : N.A Think Time : N.A Minimum Instruction Time : 0
Correct Marks : 5 Wrong Marks : 1

Question Key Details :

Key	Value
Comprehension	MCQ

आदिकालीन निर्वाह कृषि, जिसे "लादांग" कहते हैं _____ में विस्तृत रूप से की जाती है।

- (1) मैक्सिको
- (2) इंडोनेशिया
- (3) मध्य अमेरिका
- (4) भारत के उत्तर पूर्वी राज्यों

Options :

212807128089. 1
212807128090. 2
212807128091. 3
212807128092. 4

Question Number : 644 Question Id : 21280732024 Question Type : MCQ Option Shuffling : No Is Question Mandatory : No Calculator : None
Response Time : N.A Think Time : N.A Minimum Instruction Time : 0
Correct Marks : 5 Wrong Marks : 1

Question Key Details :

Key	Value
Comprehension	MCQ

The industries managed by private and public sectors together are called _____.

- (1) People sector industries
- (2) Co-ordination sector industries
- (3) Joint sector industries
- (4) Co-operative sector industries

Options :

212807128093. 1
212807128094. 2

212807128095. 3
212807128096. 4

Question Number : 644 Question Id : 21280732024 Question Type : MCQ Option Shuffling : No Is Question Mandatory : No Calculator : None
Response Time : N.A Think Time : N.A Minimum Instruction Time : 0
Correct Marks : 5 Wrong Marks : 1

Question Key Details :

Key	Value
Comprehension	MCQ

निजी और सार्वजनिक क्षेत्र द्वारा संयुक्त रूप से उद्योग प्रबंध करने को _____ कहा जाता है।

- (1) जन क्षेत्र उद्योग
- (2) समन्वय क्षेत्र उद्योग
- (3) संयुक्त क्षेत्र उद्योग
- (4) सहकारी क्षेत्र उद्योग

Options :

212807128093. 1
212807128094. 2
212807128095. 3
212807128096. 4

Question Number : 645 Question Id : 21280732025 Question Type : MCQ Option Shuffling : No Is Question Mandatory : No Calculator : None
Response Time : N.A Think Time : N.A Minimum Instruction Time : 0
Correct Marks : 5 Wrong Marks : 1

Question Key Details :

Key	Value
Comprehension	MCQ

High - tech industries which are regionally concentrated, self sustained and highly specialised are called as :

- (1) Technopolies
- (2) Metropolis
- (3) Megalopolis
- (4) Conurbation

Options :

212807128097. 1
212807128098. 2
212807128099. 3
212807128100. 4

Question Number : 645 Question Id : 21280732025 Question Type : MCQ Option Shuffling : No Is Question Mandatory : No Calculator : None
Response Time : N.A Think Time : N.A Minimum Instruction Time : 0
Correct Marks : 5 Wrong Marks : 1

Question Key Details :

Key	Value
Comprehension	MCQ

उच्च प्रौद्योगिकी उद्योग जो प्रादेशिक सकेन्द्रित है, आत्मनिर्भरता और विशिष्टता लिए होते हैं, उन्हें _____ कहा जाता है।

- (1) प्रौद्योगिक ध्रुव
- (2) महानगर
- (3) विश्वनगरी
- (4) सन्नगर

Options :

- 212807128097. 1
- 212807128098. 2
- 212807128099. 3
- 212807128100. 4

Question Number : 646 Question Id : 21280732026 Question Type : MCQ Option Shuffling : No Is Question Mandatory : No Calculator : None
Response Time : N.A Think Time : N.A Minimum Instruction Time : 0

Correct Marks : 5 Wrong Marks : 1

Question Key Details :

Key	Value
Comprehension	MCQ

The Orient Express line runs between two terminal stations _____.

- (1) Perth and Sydney
- (2) Paris and Istanbul
- (3) New York and San Francisco
- (4) New Delhi and Hawrah

Options :

- 212807128101. 1
- 212807128102. 2
- 212807128103. 3
- 212807128104. 4

Question Number : 646 Question Id : 21280732026 Question Type : MCQ Option Shuffling : No Is Question Mandatory : No Calculator : None
Response Time : N.A Think Time : N.A Minimum Instruction Time : 0

Correct Marks : 5 Wrong Marks : 1

Question Key Details :

Key	Value
Comprehension	MCQ

ओरिएंट एक्सप्रेस लाइन दो स्टेशनों _____ के मध्य चलती है।

- (1) पर्थ और सिडनी
- (2) पेरिस और इस्तांबूल
- (3) न्यूयार्क और सान फ्रांसिस्को
- (4) नई दिल्ली और हावड़ा

Options :

- 212807128101. 1
- 212807128102. 2
- 212807128103. 3
- 212807128104. 4

Question Number : 647 Question Id : 21280732027 Question Type : MCQ Option Shuffling : No Is Question Mandatory : No Calculator : None
Response Time : N.A Think Time : N.A Minimum Instruction Time : 0

Correct Marks : 5 Wrong Marks : 1

Question Key Details :

Key	Value
Comprehension	MCQ

The Suez canal is constructed by _____.

- (1) Egypt
- (2) Iran
- (3) Panama
- (4) Turkey

Options :

- 212807128105. 1
- 212807128106. 2
- 212807128107. 3
- 212807128108. 4

Question Number : 647 Question Id : 21280732027 Question Type : MCQ Option Shuffling : No Is Question Mandatory : No Calculator : None Response Time : N.A Think Time : N.A Minimum Instruction Time : 0

Correct Marks : 5 Wrong Marks : 1

Question Key Details :

Key	Value
Comprehension	MCQ

स्वेज नहर का निर्माण _____ द्वारा हुआ है।

- (1) मिश्र
- (2) ईरान
- (3) पनामा
- (4) टर्की

Options :

- 212807128105. 1
- 212807128106. 2
- 212807128107. 3
- 212807128108. 4

Question Number : 648 Question Id : 21280732028 Question Type : MCQ Option Shuffling : No Is Question Mandatory : No Calculator : None Response Time : N.A Think Time : N.A Minimum Instruction Time : 0

Correct Marks : 5 Wrong Marks : 1

Question Key Details :

Key	Value
Comprehension	MCQ

A settlement emerging at the place where several roads converge gives a _____ pattern.

- (1) Star-shaped
- (2) Circular
- (3) T-shaped
- (4) Y-shaped

Options :

- 212807128109. 1
- 212807128110. 2
- 212807128111. 3
- 212807128112. 4

Question Number : 648 Question Id : 21280732028 Question Type : MCQ Option Shuffling : No Is Question Mandatory : No Calculator : None Response Time : N.A Think Time : N.A Minimum Instruction Time : 0

Correct Marks : 5 Wrong Marks : 1

Question Key Details :

Key	Value
Comprehension	MCQ

जहाँ कई मार्ग आकर एक स्थान पर मिलते हैं, वहाँ _____ प्रतिरूप की बस्ती विकसित होती है।

- (1) तारे के आकार
- (2) वृत्ताकार
- (3) T-आकार
- (4) Y-आकार

Options :

212807128109. 1
212807128110. 2
212807128111. 3
212807128112. 4

Question Number : 649 Question Id : 21280732029 Question Type : MCQ Option Shuffling : No Is Question Mandatory : No Calculator : None
Response Time : N.A Think Time : N.A Minimum Instruction Time : 0

Correct Marks : 5 Wrong Marks : 1

Question Key Details :

Key	Value
Comprehension	MCQ

Jamshedpur is an example of _____ town.

- (1) Industrial
- (2) Cultural
- (3) Administrative
- (4) Trading

Options :

212807128113. 1
212807128114. 2
212807128115. 3
212807128116. 4

Question Number : 649 Question Id : 21280732029 Question Type : MCQ Option Shuffling : No Is Question Mandatory : No Calculator : None
Response Time : N.A Think Time : N.A Minimum Instruction Time : 0

Correct Marks : 5 Wrong Marks : 1

Question Key Details :

Key	Value
Comprehension	MCQ

जमशेदपुर एक _____ नगर का उदाहरण है।

- (1) औद्योगिक
- (2) सांस्कृतिक
- (3) प्रशासनिक
- (4) व्यापारिक

Options :

212807128113. 1
212807128114. 2
212807128115. 3
212807128116. 4

Question Number : 650 Question Id : 21280732030 Question Type : MCQ Option Shuffling : No Is Question Mandatory : No Calculator : None
Response Time : N.A Think Time : N.A Minimum Instruction Time : 0

Correct Marks : 5 Wrong Marks : 1

Question Key Details :

Key	Value
-----	-------

Comprehension	MCQ
---------------	-----

_____ means 'New Flower' ?

- (1) Djibouti
- (2) Addes Ababa
- (3) Kilimanjaro
- (4) Botswana

Options :

212807128117. 1
212807128118. 2
212807128119. 3
212807128120. 4

Question Number : 650 Question Id : 21280732030 Question Type : MCQ Option Shuffling : No Is Question Mandatory : No Calculator : None
Response Time : N.A Think Time : N.A Minimum Instruction Time : 0

Correct Marks : 5 Wrong Marks : 1

Question Key Details :

Key	Value
Comprehension	MCQ

_____ से अभिप्राय "नवीन पुष्प" है।

- (1) जिबूती
- (2) अदीस अबाबा
- (3) किलीमंजारो
- (4) बोत्स्वाना

Options :

212807128117. 1
212807128118. 2
212807128119. 3
212807128120. 4

Question Number : 651 Question Id : 21280732031 Question Type : MCQ Option Shuffling : No Is Question Mandatory : No Calculator : None
Response Time : N.A Think Time : N.A Minimum Instruction Time : 0

Correct Marks : 5 Wrong Marks : 1

Question Key Details :

Key	Value
Comprehension	MCQ

Arrange the following continents in decreasing order of their areas.

- (A) Northern America
- (B) Asia
- (C) Africa
- (D) Europe

Choose the correct answer from the options given below :

- (1) (B), (C), (D), (A)
- (2) (B), (C), (A), (D)
- (3) (B), (A), (C), (D)
- (4) (B), (A), (D), (C)

Options :

212807128121. 1
212807128122. 2
212807128123. 3

Question Number : 651 Question Id : 21280732031 Question Type : MCQ Option Shuffling : No Is Question Mandatory : No Calculator : None
Response Time : N.A Think Time : N.A Minimum Instruction Time : 0

Correct Marks : 5 Wrong Marks : 1

Question Key Details :

Key	Value
Comprehension	MCQ

निम्न महाद्वीपों को उनके क्षेत्रफल के घटते क्रम में व्यवस्थित कीजिए :

- (A) उत्तरी अमेरिका
- (B) एशिया
- (C) अफ्रीका
- (D) यूरोप

निम्न विकल्पों में से सही उत्तर चुनिए :

- (1) (B), (C), (D), (A)
- (2) (B), (C), (A), (D)
- (3) (B), (A), (C), (D)
- (4) (B), (A), (D), (C)

Options :

212807128121. 1

212807128122. 2

212807128123. 3

212807128124. 4

Question Number : 652 Question Id : 21280732032 Question Type : MCQ Option Shuffling : No Is Question Mandatory : No Calculator : None
Response Time : N.A Think Time : N.A Minimum Instruction Time : 0

Correct Marks : 5 Wrong Marks : 1

Question Key Details :

Key	Value
Comprehension	MCQ

Identify the following railway stations with respect to Tran-Siberian Railway.

- (A) Moscow
- (B) Chita
- (C) Montreal
- (D) Vladivostok

Choose the correct answer from the options given below :

- (1) (A), (B), (C) only
- (2) (A), (B), (D) only
- (3) (A), (C), (D) only
- (4) (B), (C), (D) only

Options :

212807128125. 1

212807128126. 2

212807128127. 3

212807128128. 4

Question Number : 652 Question Id : 21280732032 Question Type : MCQ Option Shuffling : No Is Question Mandatory : No Calculator : None
Response Time : N.A Think Time : N.A Minimum Instruction Time : 0

Correct Marks : 5 Wrong Marks : 1

Question Key Details :

Key	Value
Comprehension	MCQ

ट्रॉस-साइबेरियन रेलमार्ग के संदर्भ में निम्न रेलवे स्टेशनों को पहचानिए।

- (A) मास्को
- (B) चिता
- (C) मॉंट्रियल
- (D) व्लाडिवोस्टक

निम्न विकल्पों में से सही उत्तर चुनिए :

- (1) केवल (A), (B), (C)
- (2) केवल (A), (B), (D)
- (3) केवल (A), (C), (D)
- (4) केवल (B), (C), (D)

Options :

- 212807128125. 1
- 212807128126. 2
- 212807128127. 3
- 212807128128. 4

Question Number : 653 Question Id : 21280732033 Question Type : MCQ Option Shuffling : No Is Question Mandatory : No Calculator : None
Response Time : N.A Think Time : N.A Minimum Instruction Time : 0

Correct Marks : 5 Wrong Marks : 1

Question Key Details :

Key	Value
Comprehension	MCQ

Identify approaches to human development.

- (A) Welfare
- (B) Selective
- (C) Capability
- (D) Income

Choose the correct answer from the options given below :

- (1) (B), (C), (D) only
- (2) (A), (C), (D) only
- (3) (A), (B), (D) only
- (4) (A), (B), (C) only

Options :

- 212807128129. 1
- 212807128130. 2
- 212807128131. 3
- 212807128132. 4

Question Number : 653 Question Id : 21280732033 Question Type : MCQ Option Shuffling : No Is Question Mandatory : No Calculator : None
Response Time : N.A Think Time : N.A Minimum Instruction Time : 0

Correct Marks : 5 Wrong Marks : 1

Question Key Details :

Key	Value
Comprehension	MCQ

मानव विकास के उपागमों को पहचानिए।

- (A) कल्याण
- (B) चयनात्मक
- (C) क्षमता
- (D) आय

निम्न विकल्पों में से सही उत्तर चुनिए :

- (1) केवल (B), (C), (D)
- (2) केवल (A), (C), (D)
- (3) केवल (A), (B), (D)
- (4) केवल (A), (B), (C)

Options :

- 212807128129. 1
- 212807128130. 2
- 212807128131. 3
- 212807128132. 4

Question Number : 654 Question Id : 21280732034 Question Type : MCQ Option Shuffling : No Is Question Mandatory : No Calculator : None
Response Time : N.A Think Time : N.A Minimum Instruction Time : 0

Correct Marks : 5 Wrong Marks : 1

Question Key Details :

Key	Value
Comprehension	MCQ

Match List - I with List - II.

List - I

(Sea Ports)

- (A) Montevideo
- (B) Cape Town
- (C) New Orleans
- (D) London

List - II

(Country)

- (I) England
- (II) United States of America
- (III) Uruguay
- (IV) South Africa

Choose the correct answer from the options given below :

- (1) (A)-(III), (B)-(I), (C)-(IV), (D)-(II)
- (2) (A)-(III), (B)-(IV), (C)-(II), (D)-(I)
- (3) (A)-(IV), (B)-(III), (C)-(I), (D)-(II)
- (4) (A)-(IV), (B)-(II), (C)-(III), (D)-(I)

Options :

- 212807128133. 1
- 212807128134. 2
- 212807128135. 3
- 212807128136. 4

Question Number : 654 Question Id : 21280732034 Question Type : MCQ Option Shuffling : No Is Question Mandatory : No Calculator : None
Response Time : N.A Think Time : N.A Minimum Instruction Time : 0

Correct Marks : 5 Wrong Marks : 1

Question Key Details :

Key	Value
Comprehension	MCQ

सूची - I से सूची - II को मिलाइए।

सूची - I	सूची - II
समुद्री पत्तन	देश
(A) मॉंटीविडियो	(I) इंग्लैंड
(B) केप टाउन	(II) संयुक्त राज्य अमेरिका
(C) न्यू आर्लियंस	(III) उरूग्वे
(D) लंदन	(IV) दक्षिण अफ्रीका

निम्न विकल्पों में से सही उत्तर चुनिए :

- (1) (A)-(III), (B)-(I), (C)-(IV), (D)-(II)
- (2) (A)-(III), (B)-(IV), (C)-(II), (D)-(I)
- (3) (A)-(IV), (B)-(III), (C)-(I), (D)-(II)
- (4) (A)-(IV), (B)-(II), (C)-(III), (D)-(I)

Options :

212807128133. 1
212807128134. 2
212807128135. 3
212807128136. 4

Question Number : 655 Question Id : 21280732035 Question Type : MCQ Option Shuffling : No Is Question Mandatory : No Calculator : None
Response Time : N.A Think Time : N.A Minimum Instruction Time : 0

Correct Marks : 5 Wrong Marks : 1

Question Key Details :

Key	Value
Comprehension	MCQ

Match List - I with List - II.

List - I (Period)	List - II (Approaches of Human Geography)
(A) 1930 through the Inter-war period	(I) Post-modernism in geography
(B) Late 1950 to the late 1960	(II) Emergence of humanistic approach
(C) 1970s	(III) Areal differentiation
(D) 1990s	(IV) Spatial organisation

Choose the correct answer from the options given below :

- (1) (A)-(II), (B)-(I), (C)-(III), (D)-(IV)
- (2) (A)-(II), (B)-(IV), (C)-(I), (D)-(III)
- (3) (A)-(III), (B)-(IV), (C)-(II), (D)-(I)
- (4) (A)-(III), (B)-(I), (C)-(IV), (D)-(II)

Options :

212807128137. 1
212807128138. 2
212807128139. 3
212807128140. 4

Question Number : 655 Question Id : 21280732035 Question Type : MCQ Option Shuffling : No Is Question Mandatory : No Calculator : None
Response Time : N.A Think Time : N.A Minimum Instruction Time : 0

Correct Marks : 5 Wrong Marks : 1

Question Key Details :

Key	Value
Comprehension	MCQ

सूची - I से सूची - II को मिलाइए।

सूची - I

(काल/अवधि)

- (A) अंतर-युद्ध अवधि के बीच 1930 का दशक
 (B) 1950 के दशक के अंत से 1960 के दशक के अंत तक
 (C) 1970 का दशक
 (D) 1990 का दशक

सूची - II

(मानव भूगोल के उपागम)

- (I) भूगोल में उत्तर-आधुनिकवाद
 (II) मानवतावादी उपागम (विचारधारा) का उदय
 (III) क्षेत्रीय विभेदन
 (IV) स्थानिक संगठन

निम्न विकल्पों में से सही उत्तर चुनिए :

- (1) (A)-(II), (B)-(I), (C)-(III), (D)-(IV)
 (2) (A)-(II), (B)-(IV), (C)-(I), (D)-(III)
 (3) (A)-(III), (B)-(IV), (C)-(II), (D)-(I)
 (4) (A)-(III), (B)-(I), (C)-(IV), (D)-(II)

Options :

212807128137. 1
 212807128138. 2
 212807128139. 3
 212807128140. 4

Question Number : 656 Question Id : 21280732036 Question Type : MCQ Option Shuffling : No Is Question Mandatory : No Calculator : None
 Response Time : N.A Think Time : N.A Minimum Instruction Time : 0

Correct Marks : 5 Wrong Marks : 1

Question Key Details :

Key	Value
Comprehension	MCQ

Which one of the following is NOT a characteristic of clustered settlements ?

- (1) This type of settlement is generally found in fertile alluvial plains
 (2) Clustered settlement is closely built up area of houses
 (3) Clustered settlement unit are locally called nagla
 (4) In some areas, people live in compact village for security

Options :

212807128141. 1
 212807128142. 2
 212807128143. 3
 212807128144. 4

Question Number : 656 Question Id : 21280732036 Question Type : MCQ Option Shuffling : No Is Question Mandatory : No Calculator : None
 Response Time : N.A Think Time : N.A Minimum Instruction Time : 0

Correct Marks : 5 Wrong Marks : 1

Question Key Details :

Key	Value
Comprehension	MCQ

निम्न में से कौन सी गुच्छित बस्तियों की एक विशेषता नहीं है ?

- (1) बस्तियों का यह प्रकार प्रायः उपजाऊ जलोढ़ मैदानों में पाया जाता है
- (2) गुच्छित बस्ती घरों का एक संकलित निर्मित क्षेत्र है
- (3) गुच्छित बस्ती की इकाई को स्थानीय रूप में नगला नाम से जानते हैं
- (4) कुछ क्षेत्रों में, लोग सुरक्षा कारणों से संहत गाँव में रहते हैं

Options :

212807128141. 1
212807128142. 2
212807128143. 3
212807128144. 4

Question Number : 657 Question Id : 21280732037 Question Type : MCQ Option Shuffling : No Is Question Mandatory : No Calculator : None
Response Time : N.A Think Time : N.A Minimum Instruction Time : 0

Correct Marks : 5 Wrong Marks : 1

Question Key Details :

Key	Value
Comprehension	MCQ

Which one of the following towns is developed after independence ?

- (1) Jaipur
- (2) Lucknow
- (3) Madurai
- (4) Bhubneshwar

Options :

212807128145. 1
212807128146. 2
212807128147. 3
212807128148. 4

Question Number : 657 Question Id : 21280732037 Question Type : MCQ Option Shuffling : No Is Question Mandatory : No Calculator : None
Response Time : N.A Think Time : N.A Minimum Instruction Time : 0

Correct Marks : 5 Wrong Marks : 1

Question Key Details :

Key	Value
Comprehension	MCQ

निम्न में से कौन सा नगर स्वतन्त्रता के बाद विकसित हुआ ?

- (1) जयपुर
- (2) लखनऊ
- (3) मदुरई
- (4) भुवनेश्वर

Options :

212807128145. 1
212807128146. 2
212807128147. 3
212807128148. 4

Question Number : 658 Question Id : 21280732038 Question Type : MCQ Option Shuffling : No Is Question Mandatory : No Calculator : None
Response Time : N.A Think Time : N.A Minimum Instruction Time : 0

Correct Marks : 5 Wrong Marks : 1

Question Key Details :

Key	Value
-----	-------

Comprehension	MCQ
---------------	-----

According to Census of India 2011, the population size 20,000-49,999 is put into _____.

- (1) Class IV town
- (2) Class III town
- (3) Class II town
- (4) Class I town

Options :

212807128149. 1
212807128150. 2
212807128151. 3
212807128152. 4

Question Number : 658 Question Id : 21280732038 Question Type : MCQ Option Shuffling : No Is Question Mandatory : No Calculator : None
Response Time : N.A Think Time : N.A Minimum Instruction Time : 0

Correct Marks : 5 Wrong Marks : 1

Question Key Details :

Key	Value
Comprehension	MCQ

2011 की भारत की जनगणना के अनुसार 20,000-49,999 के जनसंख्या आकार को _____ वर्ग में रखा गया है।

- (1) वर्ग IV नगर
- (2) वर्ग III नगर
- (3) वर्ग II नगर
- (4) वर्ग I नगर

Options :

212807128149. 1
212807128150. 2
212807128151. 3
212807128152. 4

Question Number : 659 Question Id : 21280732039 Question Type : MCQ Option Shuffling : No Is Question Mandatory : No Calculator : None
Response Time : N.A Think Time : N.A Minimum Instruction Time : 0

Correct Marks : 5 Wrong Marks : 1

Question Key Details :

Key	Value
Comprehension	MCQ

During which of the following periods Jal Kranti Abhiyan was launched by Government of India ?

- (1) 2015-16
- (2) 2016-17
- (3) 2017-18
- (4) 2018-19

Options :

212807128153. 1
212807128154. 2
212807128155. 3
212807128156. 4

Question Number : 659 Question Id : 21280732039 Question Type : MCQ Option Shuffling : No Is Question Mandatory : No Calculator : None
Response Time : N.A Think Time : N.A Minimum Instruction Time : 0

Correct Marks : 5 Wrong Marks : 1

Question Key Details :

Key	Value
-----	-------

निम्न में से किस अवधि में भारत सरकार द्वारा “जल क्रान्ति अभियान” आरंभ किया गया ?

- (1) 2015-16
- (2) 2016-17
- (3) 2017-18
- (4) 2018-19

Options :

212807128153. 1
212807128154. 2
212807128155. 3
212807128156. 4

Question Number : 660 Question Id : 21280732040 Question Type : MCQ Option Shuffling : No Is Question Mandatory : No Calculator : None
Response Time : N.A Think Time : N.A Minimum Instruction Time : 0

Correct Marks : 5 Wrong Marks : 1

Question Key Details :

Key	Value
Comprehension	MCQ

Petroleum is referred to as _____ due to its scarcity and diverse use.

- (1) Liquid Gold
- (2) Liquid Silver
- (3) Liquid Platinum
- (4) Pure Carbon

Options :

212807128157. 1
212807128158. 2
212807128159. 3
212807128160. 4

Question Number : 660 Question Id : 21280732040 Question Type : MCQ Option Shuffling : No Is Question Mandatory : No Calculator : None
Response Time : N.A Think Time : N.A Minimum Instruction Time : 0

Correct Marks : 5 Wrong Marks : 1

Question Key Details :

Key	Value
Comprehension	MCQ

पेट्रोलियम को इसकी दुर्लभता और विविध उपयोग के कारण _____ कहा जाता है।

- (1) तरल सोना
- (2) तरल चाँदी
- (3) तरल प्लेटिनम
- (4) शुद्ध कार्बन

Options :

212807128157. 1
212807128158. 2
212807128159. 3
212807128160. 4

Question Number : 661 Question Id : 21280732041 Question Type : MCQ Option Shuffling : No Is Question Mandatory : No Calculator : None
Response Time : N.A Think Time : N.A Minimum Instruction Time : 0

Correct Marks : 5 Wrong Marks : 1

Question Key Details :

Key	Value

Visvesvaraiya Iron and Steel Works Ltd. was initially known as _____.

- (1) Vizag Steel Plants
- (2) Vijaynagar Iron and Steel Works
- (3) Mysore Iron and Steel Works
- (4) Durgapur Steel Plants

Options :

212807128161. 1
212807128162. 2
212807128163. 3
212807128164. 4

Question Number : 661 Question Id : 21280732041 Question Type : MCQ Option Shuffling : No Is Question Mandatory : No Calculator : None
Response Time : N.A Think Time : N.A Minimum Instruction Time : 0

Correct Marks : 5 Wrong Marks : 1

Question Key Details :

Key	Value
Comprehension	MCQ

विश्वेश्वरैया आयरन एंड स्टील वर्क्स लि. को पहले _____ के नाम से जाना जाता था।

- (1) विजाग स्टील प्लांट
- (2) विजयनगर आयरन एंड स्टील वर्क्स
- (3) मैसूर लोहा और इस्पात वर्क्स
- (4) दुर्गापुर इस्पात संयंत्र

Options :

212807128161. 1
212807128162. 2
212807128163. 3
212807128164. 4

Question Number : 662 Question Id : 21280732042 Question Type : MCQ Option Shuffling : No Is Question Mandatory : No Calculator : None
Response Time : N.A Think Time : N.A Minimum Instruction Time : 0

Correct Marks : 5 Wrong Marks : 1

Question Key Details :

Key	Value
Comprehension	MCQ

The National Highways connecting Delhi to Kolkata was known by _____.

- (1) National Highway - 1
- (2) National Highway - 2
- (3) National Highway - 3
- (4) National Highway - 4

Options :

212807128165. 1
212807128166. 2
212807128167. 3
212807128168. 4

Question Number : 662 Question Id : 21280732042 Question Type : MCQ Option Shuffling : No Is Question Mandatory : No Calculator : None
Response Time : N.A Think Time : N.A Minimum Instruction Time : 0

Correct Marks : 5 Wrong Marks : 1

Question Key Details :

Key	Value

दिल्ली से कोलकाता को जोड़ने वाले राष्ट्रीय महामार्ग को _____ के नाम से जाना जाता था।

- (1) राष्ट्रीय महामार्ग - 1
- (2) राष्ट्रीय महामार्ग - 2
- (3) राष्ट्रीय महामार्ग - 3
- (4) राष्ट्रीय महामार्ग - 4

Options :

212807128165. 1
212807128166. 2
212807128167. 3
212807128168. 4

Question Number : 663 Question Id : 21280732043 Question Type : MCQ Option Shuffling : No Is Question Mandatory : No Calculator : None Response Time : N.A Think Time : N.A Minimum Instruction Time : 0

Correct Marks : 5 Wrong Marks : 1

Question Key Details :

Key	Value
Comprehension	MCQ

After 1970, foodgrain import was replaced by _____.

- (1) Ore and Minerals
- (2) Agriculture and allied Products
- (3) Medicine and Pharma Products
- (4) Fertilisers and Petroleum

Options :

212807128169. 1
212807128170. 2
212807128171. 3
212807128172. 4

Question Number : 663 Question Id : 21280732043 Question Type : MCQ Option Shuffling : No Is Question Mandatory : No Calculator : None Response Time : N.A Think Time : N.A Minimum Instruction Time : 0

Correct Marks : 5 Wrong Marks : 1

Question Key Details :

Key	Value
Comprehension	MCQ

1970 के बाद खाद्यान्न आयात का स्थान _____ ने लिया।

- (1) अयस्क और खनिजों
- (2) कृषि और सम्बंधित उत्पादों
- (3) दवाएं और फार्मा उत्पाद
- (4) उर्वरक और पेट्रोलियम

Options :

212807128169. 1
212807128170. 2
212807128171. 3
212807128172. 4

Question Number : 664 Question Id : 21280732044 Question Type : MCQ Option Shuffling : No Is Question Mandatory : No Calculator : None Response Time : N.A Think Time : N.A Minimum Instruction Time : 0

Correct Marks : 5 Wrong Marks : 1

Question Key Details :

Key	Value
Comprehension	MCQ

Acid rain is caused due to _____.

- (1) Air pollution
- (2) Water pollution
- (3) Noise pollution
- (4) Land pollution

Options :

212807128173. 1
212807128174. 2
212807128175. 3
212807128176. 4

Question Number : 664 Question Id : 21280732044 Question Type : MCQ Option Shuffling : No Is Question Mandatory : No Calculator : None
Response Time : N.A Think Time : N.A Minimum Instruction Time : 0

Correct Marks : 5 Wrong Marks : 1

Question Key Details :

Key	Value
Comprehension	MCQ

_____ अम्ल वर्षा का कारण है।

- (1) वायु प्रदूषण
- (2) जल प्रदूषण
- (3) ध्वनि प्रदूषण
- (4) भूमि प्रदूषण

Options :

212807128173. 1
212807128174. 2
212807128175. 3
212807128176. 4

Question Number : 665 Question Id : 21280732045 Question Type : MCQ Option Shuffling : No Is Question Mandatory : No Calculator : None
Response Time : N.A Think Time : N.A Minimum Instruction Time : 0

Correct Marks : 5 Wrong Marks : 1

Question Key Details :

Key	Value
Comprehension	MCQ

Largest slum of Asia is in _____.

- (1) Delhi
- (2) Mumbai
- (3) Kolkata
- (4) Chennai

Options :

212807128177. 1
212807128178. 2
212807128179. 3
212807128180. 4

Question Number : 665 Question Id : 21280732045 Question Type : MCQ Option Shuffling : No Is Question Mandatory : No Calculator : None
Response Time : N.A Think Time : N.A Minimum Instruction Time : 0

Correct Marks : 5 Wrong Marks : 1

Question Key Details :

Key	Value
-----	-------

एशिया की सबसे बड़ी मलिन बस्ती _____ में है।

- (1) दिल्ली
- (2) मुम्बई
- (3) कोलकाता
- (4) चेन्नई

Options :

212807128177. 1
212807128178. 2
212807128179. 3
212807128180. 4

Question Number : 666 Question Id : 21280732046 Question Type : MCQ Option Shuffling : No Is Question Mandatory : No Calculator : None
Response Time : N.A Think Time : N.A Minimum Instruction Time : 0

Correct Marks : 5 Wrong Marks : 1

Question Key Details :

Key	Value
Comprehension	MCQ

Arrange the following landuse categories according to their ascending order of percentages of a areal coverage (2014-15).

- (A) Current Fallow
- (B) Forests
- (C) Barren and waste land
- (D) Area under non-agricultural use

Choose the correct answer from the options given below :

- (1) (A), (C), (D), (B)
- (2) (A), (C), (B), (D)
- (3) (C), (A), (B), (D)
- (4) (C), (A), (D), (B)

Options :

212807128181. 1
212807128182. 2
212807128183. 3
212807128184. 4

Question Number : 666 Question Id : 21280732046 Question Type : MCQ Option Shuffling : No Is Question Mandatory : No Calculator : None
Response Time : N.A Think Time : N.A Minimum Instruction Time : 0

Correct Marks : 5 Wrong Marks : 1

Question Key Details :

Key	Value
Comprehension	MCQ

निम्न भू-उपयोग संवर्गों को (2014-15 में) उनकी वास्तविक प्रतिशतता के अनुसार आरोही (बढ़ते हुए) क्रम में व्यवस्थित कीजिए।

- (A) वर्तमान परती भूमि
- (B) वन
- (C) बंजर एवं व्यर्थ भूमि
- (D) गैर कृषि कार्यों में प्रयुक्त भूमि (क्षेत्र)

निम्न विकल्पों में से सही उत्तर चुनिए :

- (1) (A), (C), (D), (B)
- (2) (A), (C), (B), (D)
- (3) (C), (A), (B), (D)
- (4) (C), (A), (D), (B)

Options :

- 212807128181. 1
- 212807128182. 2
- 212807128183. 3
- 212807128184. 4

Question Number : 667 Question Id : 21280732047 Question Type : MCQ Option Shuffling : No Is Question Mandatory : No Calculator : None Response Time : N.A Think Time : N.A Minimum Instruction Time : 0

Correct Marks : 5 Wrong Marks : 1

Question Key Details :

Key	Value
Comprehension	MCQ

Arrange the following oil refineries from west to east.

- (A) Mathura
- (B) Guwahati
- (C) Digboi
- (D) Barauni

Choose the correct answer from the options given below :

- (1) (D), (A), (B), (C)
- (2) (D), (A), (C), (B)
- (3) (A), (D), (B), (C)
- (4) (A), (D), (C), (B)

Options :

- 212807128185. 1
- 212807128186. 2
- 212807128187. 3
- 212807128188. 4

Question Number : 667 Question Id : 21280732047 Question Type : MCQ Option Shuffling : No Is Question Mandatory : No Calculator : None Response Time : N.A Think Time : N.A Minimum Instruction Time : 0

Correct Marks : 5 Wrong Marks : 1

Question Key Details :

Key	Value
Comprehension	MCQ

निम्न तेल शोधनशालाओं को पश्चिम से पूर्व दिशा की ओर के क्रम में व्यवस्थित कीजिए।

- (A) मथुरा
- (B) गुवाहाटी
- (C) डिगबोई
- (D) बरौनी

निम्न विकल्पों में से सही उत्तर चुनिए :

- (1) (D), (A), (B), (C)
- (2) (D), (A), (C), (B)
- (3) (A), (D), (B), (C)
- (4) (A), (D), (C), (B)

Options :

- 212807128185. 1
- 212807128186. 2
- 212807128187. 3
- 212807128188. 4

Question Number : 668 Question Id : 21280732048 Question Type : MCQ Option Shuffling : No Is Question Mandatory : No Calculator : None
Response Time : N.A Think Time : N.A Minimum Instruction Time : 0

Correct Marks : 5 Wrong Marks : 1

Question Key Details :

Key	Value
Comprehension	MCQ

Arrange the following major ports on the western coast of India from North to South direction.

- (A) Marmagao
- (B) Mumbai
- (C) Kandla
- (D) Mangaluru

Choose the correct answer from the options given below :

- (1) (A), (B), (C), (D)
- (2) (B), (D), (A), (C)
- (3) (C), (B), (A), (D)
- (4) (D), (A), (C), (B)

Options :

- 212807128189. 1
- 212807128190. 2
- 212807128191. 3
- 212807128192. 4

Question Number : 668 Question Id : 21280732048 Question Type : MCQ Option Shuffling : No Is Question Mandatory : No Calculator : None
Response Time : N.A Think Time : N.A Minimum Instruction Time : 0

Correct Marks : 5 Wrong Marks : 1

Question Key Details :

Key	Value
Comprehension	MCQ

भारत के पश्चिमी तट पर स्थित निम्न पत्तनों को उत्तर से दक्षिण दिशा में व्यवस्थित कीजिए।

- (A) मार्मागाओ
- (B) मुम्बई
- (C) कांडला
- (D) मंगलूरू

निम्न विकल्पों में से सही उत्तर चुनिए :

- (1) (A), (B), (C), (D)
- (2) (B), (D), (A), (C)
- (3) (C), (B), (A), (D)
- (4) (D), (A), (C), (B)

Options :

212807128189. 1

212807128190. 2

212807128191. 3

212807128192. 4

Question Number : 669 Question Id : 21280732049 Question Type : MCQ Option Shuffling : No Is Question Mandatory : No Calculator : None
Response Time : N.A Think Time : N.A Minimum Instruction Time : 0

Correct Marks : 5 Wrong Marks : 1

Question Key Details :

Key	Value
Comprehension	MCQ

As per location arrange the following International airports from east to west direction.

- (A) Kolkata
- (B) Amritsar
- (C) Guwahati
- (D) Delhi

Choose the correct answer from the options given below :

- (1) (A), (C), (D), (B)
- (2) (A), (C), (B), (D)
- (3) (C), (A), (D), (B)
- (4) (C), (A), (B), (D)

Options :

212807128193. 1

212807128194. 2

212807128195. 3

212807128196. 4

Question Number : 669 Question Id : 21280732049 Question Type : MCQ Option Shuffling : No Is Question Mandatory : No Calculator : None
Response Time : N.A Think Time : N.A Minimum Instruction Time : 0

Correct Marks : 5 Wrong Marks : 1

Question Key Details :

Key	Value
Comprehension	MCQ

स्थिति के अनुसार निम्न अंतर्राष्ट्रीय हवाई पत्तनों को पूर्व से पश्चिम दिशा में व्यवस्थित कीजिए।

- (A) कोलकाता
- (B) अमृतसर
- (C) गुवाहाटी
- (D) दिल्ली

निम्न विकल्पों में से सही उत्तर चुनिए :

- (1) (A), (C), (D), (B)
- (2) (A), (C), (B), (D)
- (3) (C), (A), (D), (B)
- (4) (C), (A), (B), (D)

Options :

- 212807128193. 1
- 212807128194. 2
- 212807128195. 3
- 212807128196. 4

Question Number : 670 Question Id : 21280732050 Question Type : MCQ Option Shuffling : No Is Question Mandatory : No Calculator : None
Response Time : N.A Think Time : N.A Minimum Instruction Time : 0

Correct Marks : 5 Wrong Marks : 1

Question Key Details :

Key	Value
Comprehension	MCQ

Read the following statements about rice cultivation in India and identify the correct statements.

- (A) There are about 3000 varieties of rice.
- (B) Traditionally, it is a crop of tropical humid areas.
- (C) Three crops of rice - aus, aman and boro are grown in green revolution area.
- (D) Dry but irrigated areas of Punjab, Haryana and Western Uttar Pradesh grow rice.

Choose the correct answer from the options given below :

- (1) (A), (B) and (C) only
- (2) (A), (B) and (D) only
- (3) (A), (C) and (D) only
- (4) (B), (C) and (D) only

Options :

- 212807128197. 1
- 212807128198. 2
- 212807128199. 3
- 212807128200. 4

Question Number : 670 Question Id : 21280732050 Question Type : MCQ Option Shuffling : No Is Question Mandatory : No Calculator : None
Response Time : N.A Think Time : N.A Minimum Instruction Time : 0

Correct Marks : 5 Wrong Marks : 1

Question Key Details :

Key	Value
Comprehension	MCQ

भारत में चावल की कृषि से सम्बंधित निम्न कथनों को पढ़िए तथा सही कथनों की पहचान करें।

- (A) चावल की लगभग 3000 किस्में हैं।
- (B) परम्परागत रूप से यह एक उष्ण आर्द्र कटिबंधीय फसल है।
- (C) हरित क्रान्ति वाले क्षेत्र में चावल की तीन फसलें-औस, अमन और बोरो उगाई जाती हैं।
- (D) पंजाब, हरियाणा और पश्चिमी उत्तर प्रदेश के शुष्क लेकिन सिंचित क्षेत्रों में चावल उगाया जाता है।

निम्न विकल्पों में से सही उत्तर चुनिए :

- (1) केवल (A), (B) और (C)
- (2) केवल (A), (B) और (D)
- (3) केवल (A), (C) और (D)
- (4) केवल (B), (C) और (D)

Options :

- 212807128197. 1
- 212807128198. 2
- 212807128199. 3
- 212807128200. 4

Question Number : 671 Question Id : 21280732051 Question Type : MCQ Option Shuffling : No Is Question Mandatory : No Calculator : None

Response Time : N.A Think Time : N.A Minimum Instruction Time : 0

Correct Marks : 5 Wrong Marks : 1

Question Key Details :

Key	Value
Comprehension	MCQ

Read the following statements about water demand and utilisation in India carefully and identify the correct statements.

- (A) Agriculture is the largest sector to utilise water for irrigation.
- (B) Agriculture accounts for little less than 60% of surface water utilisation.
- (C) Only 2% of surface water is utilised by industrial sector
- (D) About 9% of surface water is utilised in domestic sector

Choose the correct answer from the options given below :

- (1) (A), (B) and (C) only
- (2) (A), (B) and (D) only
- (3) (A), (C) and (D) only
- (4) (B), (C) and (D) only

Options :

- 212807128201. 1
- 212807128202. 2
- 212807128203. 3
- 212807128204. 4

Question Number : 671 Question Id : 21280732051 Question Type : MCQ Option Shuffling : No Is Question Mandatory : No Calculator : None

Response Time : N.A Think Time : N.A Minimum Instruction Time : 0

Correct Marks : 5 Wrong Marks : 1

Question Key Details :

Key	Value
Comprehension	MCQ

भारत में जल की माँग और उपयोग के संदर्भ में निम्न कथनों को ध्यानपूर्वक पढ़िए तथा सही कथनों की पहचान करें।

- (A) सिंचाई के लिए जल का उपयोग करने में कृषि सबसे बड़ा सेक्टर है।
- (B) कृषि, धरातलीय जल उपयोग का 60% से कुछ कम मात्रा का उपयोग करती है।
- (C) धरातलीय जल का केवल 2% उद्योग सेक्टर द्वारा उपयोग किया जाता है।
- (D) लगभग 9% धरातलीय जल का उपयोग घरेलू सेक्टर में होता है।

निम्न विकल्पों में से सही उत्तर चुनिए :

- (1) केवल (A), (B) और (C)
- (2) केवल (A), (B) और (D)
- (3) केवल (A), (C) और (D)
- (4) केवल (B), (C) और (D)

Options :

- 212807128201. 1
- 212807128202. 2
- 212807128203. 3
- 212807128204. 4

Question Number : 672 Question Id : 21280732052 Question Type : MCQ Option Shuffling : No Is Question Mandatory : No Calculator : None
Response Time : N.A Think Time : N.A Minimum Instruction Time : 0
Correct Marks : 5 Wrong Marks : 1

Question Key Details :

Key	Value
Comprehension	MCQ

Read the following statements about Konkan railway carefully and identify the correct statements.

- (A) It connects Mangalore in Maharashtra to Roha in Karnataka.
- (B) It crosses 146 rivers, streams and nearly 2000 bridges.
- (C) The states of Maharashtra, Goa and Karnataka are partners in this undertaking.
- (D) It is 760 km long rail route.

Choose the correct answer from the options given below :

- (1) (A), (B) and (C) only
- (2) (A), (B) and (D) only
- (3) (A), (C) and (D) only
- (4) (B), (C) and (D) only

Options :

- 212807128205. 1
- 212807128206. 2
- 212807128207. 3
- 212807128208. 4

Question Number : 672 Question Id : 21280732052 Question Type : MCQ Option Shuffling : No Is Question Mandatory : No Calculator : None
Response Time : N.A Think Time : N.A Minimum Instruction Time : 0
Correct Marks : 5 Wrong Marks : 1

Question Key Details :

Key	Value
Comprehension	MCQ

कोंकण रेलवे के संदर्भ में निम्न कथनों को ध्यानपूर्वक पढ़िए तथा सही कथनों की पहचान करें।

- (A) यह महाराष्ट्र में मंगलोर को कर्नाटक में रोहा से जोड़ता है।
- (B) यह 146 नदियों, धाराओं तथा 2000 पुलों को पार करता है।
- (C) इस उद्यम में महाराष्ट्र, गोआ और कर्नाटक राज्य भागीदार हैं।
- (D) यह 760 किमी. लम्बा रेलमार्ग है।

निम्न विकल्पों में से सही उत्तर चुनिए :

- (1) केवल (A), (B) और (C)
- (2) केवल (A), (B) और (D)
- (3) केवल (A), (C) और (D)
- (4) केवल (B), (C) और (D)

Options :

- 212807128205. 1
- 212807128206. 2
- 212807128207. 3
- 212807128208. 4

Question Number : 673 Question Id : 21280732053 Question Type : MCQ Option Shuffling : No Is Question Mandatory : No Calculator : None

Response Time : N.A Think Time : N.A Minimum Instruction Time : 0

Correct Marks : 5 Wrong Marks : 1

Question Key Details :

Key	Value
Comprehension	MCQ

Match List - I with List - II.

List - I

(Iron Ore Mines)

(A) Ratnagiri

(B) Kudiemukh

(C) Bailadila

(D) Noamundi

List - II

(States)

(I) Maharashtra

(II) Jharkhand

(III) Chattisgarh

(IV) Karnataka

Choose the correct answer from the options given below :

- (1) (A)-(I), (B)-(II), (C)-(III), (D)-(IV)
- (2) (A)-(IV), (B)-(III), (C)-(II), (D)-(I)
- (3) (A)-(I), (B)-(III), (C)-(IV), (D)-(II)
- (4) (A)-(I), (B)-(IV), (C)-(III), (D)-(II)

Options :

- 212807128209. 1
- 212807128210. 2
- 212807128211. 3
- 212807128212. 4

Question Number : 673 Question Id : 21280732053 Question Type : MCQ Option Shuffling : No Is Question Mandatory : No Calculator : None

Response Time : N.A Think Time : N.A Minimum Instruction Time : 0

Correct Marks : 5 Wrong Marks : 1

Question Key Details :

Key	Value
Comprehension	MCQ

सूची - I से सूची - II को मिलाइए।

सूची - I (लौह-अयस्क खदानें)	सूची - II (राज्य)
(A) रत्नागिरि	(I) महाराष्ट्र
(B) कुद्रेमुख	(II) झारखंड
(C) बैलाडीला	(III) छत्तीसगढ़
(D) नोआमुंडी	(IV) कर्नाटक

निम्न विकल्पों में से सही उत्तर चुनिए :

- (1) (A)-(I), (B)-(II), (C)-(III), (D)-(IV)
- (2) (A)-(IV), (B)-(III), (C)-(II), (D)-(I)
- (3) (A)-(I), (B)-(III), (C)-(IV), (D)-(II)
- (4) (A)-(I), (B)-(IV), (C)-(III), (D)-(II)

Options :

212807128209. 1
212807128210. 2
212807128211. 3
212807128212. 4

Question Number : 674 Question Id : 21280732054 Question Type : MCQ Option Shuffling : No Is Question Mandatory : No Calculator : None
Response Time : N.A Think Time : N.A Minimum Instruction Time : 0

Correct Marks : 5 Wrong Marks : 1

Question Key Details :

Key	Value
Comprehension	MCQ

Match List - I with List - II.

List - I (Steel Plants)	List - II (Location)
(A) Rourkela Steel Plant	(I) West Bengal
(B) Bhilai Steel Plant	(II) Andhra Pradesh
(C) Durgapur Steel Plant	(III) Odisha
(D) Vizag Steel Plant	(IV) Chattisgarh

Choose the correct answer from the options given below :

- (1) (A)-(III), (B)-(IV), (C)-(II), (D)-(I)
- (2) (A)-(III), (B)-(IV), (C)-(I), (D)-(II)
- (3) (A)-(IV), (B)-(III), (C)-(I), (D)-(II)
- (4) (A)-(IV), (B)-(III), (C)-(II), (D)-(I)

Options :

212807128213. 1
212807128214. 2
212807128215. 3
212807128216. 4

Question Number : 674 Question Id : 21280732054 Question Type : MCQ Option Shuffling : No Is Question Mandatory : No Calculator : None
Response Time : N.A Think Time : N.A Minimum Instruction Time : 0

Correct Marks : 5 Wrong Marks : 1

Question Key Details :

Key	Value
Comprehension	MCQ

सूची - I से सूची - II को मिलाइए।

सूची - I

(इस्पात संयंत्र)

- (A) राउरकेला इस्पात संयंत्र
 (B) भिलाई इस्पात संयंत्र
 (C) दुर्गापुर इस्पात संयंत्र
 (D) विजाग इस्पात संयंत्र

सूची - II

(अवस्थिति)

- (I) पश्चिम बंगाल
 (II) आंध्र प्रदेश
 (III) ओड़िसा
 (IV) छत्तीसगढ़

निम्न विकल्पों में से सही उत्तर चुनिए :

- (1) (A)-(III), (B)-(IV), (C)-(II), (D)-(I)
 (2) (A)-(III), (B)-(IV), (C)-(I), (D)-(II)
 (3) (A)-(IV), (B)-(III), (C)-(I), (D)-(II)
 (4) (A)-(IV), (B)-(III), (C)-(II), (D)-(I)

Options :

212807128213. 1
 212807128214. 2
 212807128215. 3
 212807128216. 4

Question Number : 675 Question Id : 21280732055 Question Type : MCQ Option Shuffling : No Is Question Mandatory : No Calculator : None
 Response Time : N.A Think Time : N.A Minimum Instruction Time : 0

Correct Marks : 5 Wrong Marks : 1

Question Key Details :

Key	Value
Comprehension	MCQ

Match List - I with List - II.

List - I

- (A) National Highways
 (B) State Highways
 (C) District Roads
 (D) Rural Roads

List - II

- (I) Joining state capitals with district headquarters
 (II) Providing links in the rural areas
 (III) Inter-state Transport
 (IV) Connecting district headquarters and other important nodes

Choose the correct answer from the options given below :

- (1) (A)-(III), (B)-(II), (C)-(I), (D)-(IV)
 (2) (A)-(III), (B)-(I), (C)-(IV), (D)-(II)
 (3) (A)-(I), (B)-(III), (C)-(II), (D)-(IV)
 (4) (A)-(I), (B)-(IV), (C)-(III), (D)-(II)

Options :

212807128217. 1
 212807128218. 2
 212807128219. 3
 212807128220. 4

Question Number : 675 Question Id : 21280732055 Question Type : MCQ Option Shuffling : No Is Question Mandatory : No Calculator : None
 Response Time : N.A Think Time : N.A Minimum Instruction Time : 0

Correct Marks : 5 Wrong Marks : 1

Question Key Details :

Key	Value
Comprehension	MCQ

सूची - I से सूची - II को मिलाइए।

सूची - I

- (A) राष्ट्रीय महामार्ग
(B) राज्य महामार्ग
(C) जिला सड़कें
(D) ग्रामीण सड़कें

सूची - II

- (I) राज्य की राजधानियों से जिला मुख्यालयों को जोड़ते हैं
(II) ग्रामीण क्षेत्रों को जोड़ती हैं
(III) अंतरराज्यीय परिवहन
(IV) जिला मुख्यालयों और अन्य महत्वपूर्ण केंद्रों को जोड़ती हैं

निम्न विकल्पों में से सही उत्तर चुनिए :

- (1) (A)-(III), (B)-(II), (C)-(I), (D)-(IV)
(2) (A)-(III), (B)-(I), (C)-(IV), (D)-(II)
(3) (A)-(I), (B)-(III), (C)-(II), (D)-(IV)
(4) (A)-(I), (B)-(IV), (C)-(III), (D)-(II)

Options :

212807128217. 1
212807128218. 2
212807128219. 3
212807128220. 4

Sub-Section Number :

2

Sub-Section Id :

2128072525

Question Shuffling Allowed :

No

Is Section Default? :

null

Question Number : 676 Question Id : 21280732056 Question Type : MCQ Option Shuffling : No Is Question Mandatory : No Calculator : None
Response Time : N.A Think Time : N.A Minimum Instruction Time : 0

Correct Marks : 5 Wrong Marks : 1

Question Key Details :

Key	Value
Comprehension	Comp1

Read the passage and answer the following question.

Market gardening and horticulture specialise in the cultivation of high value crops such as vegetables, fruits and flowers, solely for the urban markets. Farms are small and are located where there are good transportation links with the urban centre where high income group of consumers is located. It is both labour and capital intensive and lays emphasis on the use of irrigation, HYV seeds, fertilisers, insecticides, greenhouses and artificial heating in colder regions.

This type of agriculture is well developed in densely populated industrial districts of north west Europe, north eastern United States of America and the Mediterranean regions. The Netherlands specialises in growing flowers and horticultural crops especially tulips, which are flown to all major cities of Europe.

The regions where farmers specialise in vegetables only, the farming is know as **truck farming**. The distance of truck farms from the market is governed by the distance that a truck can cover overnight, hence the name truck farming.

In addition to market gardening, a modern development in the industrial regions of Western Europe and North America is factory farming. Livestock, particularly poultry and cattle rearing is done in stalls and pens, fed on manufactured feedstuff and carefully supervised against diseases. This requires heavy capital investment in terms of building, machinery for various operations, veterinary services and heating and lighting. One of the important features of poultry farming and cattle rearing is breed selection and scientific breeding.

Market gardening and horticulture specialise in the cultivation solely for the _____.

- (1) Competitive markets
- (2) Urban markets
- (3) Community markets
- (4) International markets

Options :

- 212807128221. 1
- 212807128222. 2
- 212807128223. 3
- 212807128224. 4

Question Number : 676 Question Id : 21280732056 Question Type : MCQ Option Shuffling : No Is Question Mandatory : No Calculator : None Response Time : N.A Think Time : N.A Minimum Instruction Time : 0

Correct Marks : 5 Wrong Marks : 1

Question Key Details :

Key	Value
Comprehension	Comp1

गद्यांश को ध्यानपूर्वक पढ़िए और निम्न प्रश्न का उत्तर दीजिए :

बाजार सब्जी खेती एवं उद्यान कृषि में अधिक मुद्रा मिलने वाली फसलें जैसे सब्जियों, फल एवं पुष्प लगाए जाते हैं जिनकी माँग नगरीय क्षेत्रों में होती है। इस कृषि में खेतों का आकार छोटा होता है एवं खेत अच्छे यातायात साधनों के द्वारा नगरीय केंद्रों जहाँ ऊँची आय वाले उपभोक्ता रहते हैं। इसमें गहन श्रम एवं अधिक पूँजी की आवश्यकता होती है। इसके अतिरिक्त सिंचाई, उर्वरक, अच्छी किस्म के बीज, कीटनाशी, हरित गृह एवं शीत क्षेत्रों में कृत्रिम ताप का भी इस कृषि में उपयोग होता है।

इस प्रकार की कृषि उत्तरी पश्चिमी यूरोप, संयुक्त राज्य अमेरिका के उत्तरी पूर्वी भाग एवं भूमध्यसागरीय प्रदेश में अधिक विकसित है, जहाँ औद्योगिक क्षेत्रों में जनसंख्या घनत्व अधिक है। नीदरलैंड पुष्प उत्पादन में विशिष्टीकरण रखता है। यहाँ से बागवानी फसल विशेषतः ट्यूलिप (एक प्रकार का फूल) पूरे यूरोप के प्रमुख शहरों में भेजा जाता है।

जिन प्रदेशों में कृषक केवल सब्जियाँ पैदा करता है वहाँ इसको 'ट्रक कृषि' का नाम दिया जाता है। ट्रक फार्म एवं बाजार के मध्य की दूरी, जो एक ट्रक रात भर में तय करता है, उसी आधार पर इसका नाम ट्रक कृषि रखा गया है।

पश्चिमी यूरोप एवं उत्तरी अमेरिका के औद्योगिक क्षेत्रों में उद्यान कृषि के अलावा कारखाना कृषि एक आधुनिक विकास है। इसमें पशुधन पाला जाता है जिनमें विशेषतः गाय-बैल एवं कुक्कुट होते हैं। इन्हें बाड़े पर कारखानों में तैयार भोजन पर रखा जाता है, एवं उनकी बीमारियों का भी ध्यान रखा जाता है। इसमें भवन निर्माण, विभिन्न कार्यों के लिए यंत्र, प्रकाश एवं ताप की व्यवस्था करने एवं पशु चिकित्सा के लिए बहुत अधिक धन की आवश्यकता होती है। अच्छी नस्ल का चुनाव और प्रजनन की वैज्ञानिक विधियों कुक्कुट एवं पशुपालन के महत्वपूर्ण लक्षण हैं।

बाजार सब्जी खेती और उद्यान कृषि विशेष रूप से केवल _____ के लिए की जाती है।

- (1) प्रतिस्पर्धी बाजारों
- (2) नगरीय बाजारों
- (3) सामुदायिक बाजारों
- (4) अंतर्राष्ट्रीय बाजारों

Options :

212807128221. 1
212807128222. 2
212807128223. 3
212807128224. 4

Question Number : 677 Question Id : 21280732057 Question Type : MCQ Option Shuffling : No Is Question Mandatory : No Calculator : None
Response Time : N.A Think Time : N.A Minimum Instruction Time : 0

Correct Marks : 5 Wrong Marks : 1

Question Key Details :

Key	Value
Comprehension	Compl

Read the passage and answer the following question.

Market gardening and horticulture specialise in the cultivation of high value crops such as vegetables, fruits and flowers, solely for the urban markets. Farms are small and are located where there are good transportation links with the urban centre where high income group of consumers is located. It is both labour and capital intensive and lays emphasis on the use of irrigation, HYV seeds, fertilisers, insecticides, greenhouses and artificial heating in colder regions.

This type of agriculture is well developed in densely populated industrial districts of north west Europe, north eastern United States of America and the Mediterranean regions. The Netherlands specialises in growing flowers and horticultural crops especially tulips, which are flown to all major cities of Europe.

The regions where farmers specialise in vegetables only, the farming is know as **truck farming**. The distance of truck farms from the market is governed by the distance that a truck can cover overnight, hence the name truck farming.

In addition to market gardening, a modern development in the industrial regions of Western Europe and North America is factory farming. Livestock, particularly poultry and cattle rearing is done in stalls and pens, fed on manufactured feedstuff and carefully supervised against diseases. This requires heavy capital investment in terms of building, machinery for various operations, veterinary services and heating and lighting. One of the important features of poultry farming and cattle rearing is breed selection and scientific breeding.

Which of the following is NOT associated with market gardening and horticulture ?

- (1) Good transportation to market
- (2) High income group consumer
- (3) Large sized farms
- (4) Near to urban centres

Options :

212807128225. 1

212807128226. 2

212807128227. 3

212807128228. 4

Question Number : 677 Question Id : 21280732057 Question Type : MCQ Option Shuffling : No Is Question Mandatory : No Calculator : None
Response Time : N.A Think Time : N.A Minimum Instruction Time : 0

Correct Marks : 5 Wrong Marks : 1

Question Key Details :

Key	Value
Comprehension	Comp1

गद्यांश को ध्यानपूर्वक पढ़िए और निम्न प्रश्न का उत्तर दीजिए :

बाजार सब्जी खेती एवं उद्यान कृषि में अधिक मुद्रा मिलने वाली फसलें जैसे सब्जियों, फल एवं पुष्प लगाए जाते हैं जिनकी माँग नगरीय क्षेत्रों में होती है। इस कृषि में खेतों का आकार छोटा होता है एवं खेत अच्छे यातायात साधनों के द्वारा नगरीय केंद्रों जहाँ ऊँची आय वाले उपभोक्ता रहते हैं। इसमें गहन श्रम एवं अधिक पूँजी की आवश्यकता होती है। इसके अतिरिक्त सिंचाई, उर्वरक, अच्छी किस्म के बीज, कीटनाशी, हरित गृह एवं शीत क्षेत्रों में कृत्रिम ताप का भी इस कृषि में उपयोग होता है।

इस प्रकार की कृषि उत्तरी पश्चिमी यूरोप, संयुक्त राज्य अमेरिका के उत्तरी पूर्वी भाग एवं भूमध्यसागरीय प्रदेश में अधिक विकसित है, जहाँ औद्योगिक क्षेत्रों में जनसंख्या घनत्व अधिक है। नीदरलैंड पुष्प उत्पादन में विशिष्टीकरण रखता है। यहाँ से बागवानी फसल विशेषतः ट्यूलिप (एक प्रकार का फूल) पूरे यूरोप के प्रमुख शहरों में भेजा जाता है।

जिन प्रदेशों में कृषक केवल सब्जियाँ पैदा करता है वहाँ इसको 'ट्रक कृषि' का नाम दिया जाता है। ट्रक फार्म एवं बाजार के मध्य की दूरी, जो एक ट्रक रात भर में तय करता है, उसी आधार पर इसका नाम ट्रक कृषि रखा गया है।

पश्चिमी यूरोप एवं उत्तरी अमेरिका के औद्योगिक क्षेत्रों में उद्यान कृषि के अलावा कारखाना कृषि एक आधुनिक विकास है। इसमें पशुधन पाला जाता है जिनमें विशेषतः गाय-बैल एवं कुक्कुट होते हैं। इन्हें बाड़े पर कारखानों में तैयार भोजन पर रखा जाता है, एवं उनकी बीमारियों का भी ध्यान रखा जाता है। इसमें भवन निर्माण, विभिन्न कार्यों के लिए यंत्र, प्रकाश एवं ताप की व्यवस्था करने एवं पशु चिकित्सा के लिए बहुत अधिक धन की आवश्यकता होती है। अच्छी नस्ल का चुनाव और प्रजनन की वैज्ञानिक विधियों कुक्कुट एवं पशुपालन के महत्वपूर्ण लक्षण हैं।

निम्न में से कौन सा बाजार सब्जी खेती और उद्यान कृषि से सम्बंधित नहीं है?

- (1) बाजार के लिए अच्छा परिवहन
- (2) उच्च आय वर्ग के उपभोक्ता
- (3) बड़े आकार के खेत
- (4) नगरीय केन्द्रों से निकटता

Options :

212807128225. 1
212807128226. 2
212807128227. 3
212807128228. 4

Question Number : 678 Question Id : 21280732058 Question Type : MCQ Option Shuffling : No Is Question Mandatory : No Calculator : None
Response Time : N.A Think Time : N.A Minimum Instruction Time : 0

Correct Marks : 5 Wrong Marks : 1

Question Key Details :

Key	Value
Comprehension	Comp1

Read the passage and answer the following question.

Market gardening and horticulture specialise in the cultivation of high value crops such as vegetables, fruits and flowers, solely for the urban markets. Farms are small and are located where there are good transportation links with the urban centre where high income group of consumers is located. It is both labour and capital intensive and lays emphasis on the use of irrigation, HYV seeds, fertilisers, insecticides, greenhouses and artificial heating in colder regions.

This type of agriculture is well developed in densely populated industrial districts of north west Europe, north eastern United States of America and the Mediterranean regions. The Netherlands specialises in growing flowers and horticultural crops especially tulips, which are flown to all major cities of Europe.

The regions where farmers specialise in vegetables only, the farming is know as **truck farming**. The distance of truck farms from the market is governed by the distance that a truck can cover overnight, hence the name truck farming.

In addition to market gardening, a modern development in the industrial regions of Western Europe and North America is factory farming. Livestock, particularly poultry and cattle rearing is done in stalls and pens, fed on manufactured feedstuff and carefully supervised against diseases. This requires heavy capital investment in terms of building, machinery for various operations, veterinary services and heating and lighting. One of the important features of poultry farming and cattle rearing is breed selection and scientific breeding.

The Netherlands specialises in growing which of the following flowers ?

- (1) Rose
- (2) Tulips
- (3) Sunflower
- (4) Marigold

Options :

212807128229. 1

212807128230. 2

212807128231. 3

212807128232. 4

Question Number : 678 Question Id : 21280732058 Question Type : MCQ Option Shuffling : No Is Question Mandatory : No Calculator : None Response Time : N.A Think Time : N.A Minimum Instruction Time : 0

Correct Marks : 5 Wrong Marks : 1

Question Key Details :

Key	Value
Comprehension	Comp1

गद्यांश को ध्यानपूर्वक पढ़िए और निम्न प्रश्न का उत्तर दीजिए :

बाजार सब्जी खेती एवं उद्यान कृषि में अधिक मुद्रा मिलने वाली फसलें जैसे सब्जियों, फल एवं पुष्प लगाए जाते हैं जिनकी माँग नगरीय क्षेत्रों में होती है। इस कृषि में खेतों का आकार छोटा होता है एवं खेत अच्छे यातायात साधनों के द्वारा नगरीय केंद्रों जहाँ ऊँची आय वाले उपभोक्ता रहते हैं। इसमें गहन श्रम एवं अधिक पूँजी की आवश्यकता होती है। इसके अतिरिक्त सिंचाई, उर्वरक, अच्छी किस्म के बीज, कीटनाशी, हरित गृह एवं शीत क्षेत्रों में कृत्रिम ताप का भी इस कृषि में उपयोग होता है।

इस प्रकार की कृषि उत्तरी पश्चिमी यूरोप, संयुक्त राज्य अमेरिका के उत्तरी पूर्वी भाग एवं भूमध्यसागरीय प्रदेश में अधिक विकसित है, जहाँ औद्योगिक क्षेत्रों में जनसंख्या घनत्व अधिक है। नीदरलैंड पुष्प उत्पादन में विशिष्टीकरण रखता है। यहाँ से बागवानी फसल विशेषतः ट्यूलिप (एक प्रकार का फूल) पूरे यूरोप के प्रमुख शहरों में भेजा जाता है।

जिन प्रदेशों में कृषक केवल सब्जियाँ पैदा करता है वहाँ इसको 'ट्रक कृषि' का नाम दिया जाता है। ट्रक फार्म एवं बाजार के मध्य की दूरी, जो एक ट्रक रात भर में तय करता है, उसी आधार पर इसका नाम ट्रक कृषि रखा गया है।

पश्चिमी यूरोप एवं उत्तरी अमेरिका के औद्योगिक क्षेत्रों में उद्यान कृषि के अलावा कारखाना कृषि एक आधुनिक विकास है। इसमें पशुधन पाला जाता है जिनमें विशेषतः गाय-बैल एवं कुक्कुट होते हैं। इन्हें बाड़े पर कारखानों में तैयार भोजन पर रखा जाता है, एवं उनकी बीमारियों का भी ध्यान रखा जाता है। इसमें भवन निर्माण, विभिन्न कार्यों के लिए यंत्र, प्रकाश एवं ताप की व्यवस्था करने एवं पशु चिकित्सा के लिए बहुत अधिक धन की आवश्यकता होती है। अच्छी नस्ल का चुनाव और प्रजनन की वैज्ञानिक विधियों कुक्कुट एवं पशुपालन के महत्वपूर्ण लक्षण हैं।

नीदरलैंड निम्न में से किस फूल को उगाने में विशिष्टीकरण रखता है ?

- (1) गुलाब
- (2) ट्यूलिप
- (3) सूरजमुखी
- (4) गेंदा

Options :

212807128229. 1
212807128230. 2
212807128231. 3
212807128232. 4

Question Number : 679 Question Id : 21280732059 Question Type : MCQ Option Shuffling : No Is Question Mandatory : No Calculator : None
Response Time : N.A Think Time : N.A Minimum Instruction Time : 0

Correct Marks : 5 Wrong Marks : 1

Question Key Details :

Key	Value
Comprehension	Compl

Read the passage and answer the following question.

Market gardening and horticulture specialise in the cultivation of high value crops such as vegetables, fruits and flowers, solely for the urban markets. Farms are small and are located where there are good transportation links with the urban centre where high income group of consumers is located. It is both labour and capital intensive and lays emphasis on the use of irrigation, HYV seeds, fertilisers, insecticides, greenhouses and artificial heating in colder regions.

This type of agriculture is well developed in densely populated industrial districts of north west Europe, north eastern United States of America and the Mediterranean regions. The Netherlands specialises in growing flowers and horticultural crops especially tulips, which are flown to all major cities of Europe.

The regions where farmers specialise in vegetables only, the farming is know as **truck farming**. The distance of truck farms from the market is governed by the distance that a truck can cover overnight, hence the name truck farming.

In addition to market gardening, a modern development in the industrial regions of Western Europe and North America is factory farming. Livestock, particularly poultry and cattle rearing is done in stalls and pens, fed on manufactured feedstuff and carefully supervised against diseases. This requires heavy capital investment in terms of building, machinery for various operations, veterinary services and heating and lighting. One of the important features of poultry farming and cattle rearing is breed selection and scientific breeding.

Farming where farmers specialise in growing only vegetables is known as _____.

- (1) Truck farming
- (2) Factory farming
- (3) Apiculture
- (4) Horticulture

Options :

- 212807128233. 1
- 212807128234. 2
- 212807128235. 3
- 212807128236. 4

Question Number : 679 Question Id : 21280732059 Question Type : MCQ Option Shuffling : No Is Question Mandatory : No Calculator : None Response Time : N.A Think Time : N.A Minimum Instruction Time : 0

Correct Marks : 5 Wrong Marks : 1

Question Key Details :

Key	Value
Comprehension	Comp1

गद्यांश को ध्यानपूर्वक पढ़िए और निम्न प्रश्न का उत्तर दीजिए :

बाजार सब्जी खेती एवं उद्यान कृषि में अधिक मुद्रा मिलने वाली फसलें जैसे सब्जियों, फल एवं पुष्प लगाए जाते हैं जिनकी माँग नगरीय क्षेत्रों में होती है। इस कृषि में खेतों का आकार छोटा होता है एवं खेत अच्छे यातायात साधनों के द्वारा नगरीय केंद्रों जहाँ ऊँची आय वाले उपभोक्ता रहते हैं। इसमें गहन श्रम एवं अधिक पूँजी की आवश्यकता होती है। इसके अतिरिक्त सिंचाई, उर्वरक, अच्छी किस्म के बीज, कीटनाशी, हरित गृह एवं शीत क्षेत्रों में कृत्रिम ताप का भी इस कृषि में उपयोग होता है।

इस प्रकार की कृषि उत्तरी पश्चिमी यूरोप, संयुक्त राज्य अमेरिका के उत्तरी पूर्वी भाग एवं भूमध्यसागरीय प्रदेश में अधिक विकसित है, जहाँ औद्योगिक क्षेत्रों में जनसंख्या घनत्व अधिक है। नीदरलैंड पुष्प उत्पादन में विशिष्टीकरण रखता है। यहाँ से बागवानी फसल विशेषतः ट्यूलिप (एक प्रकार का फूल) पूरे यूरोप के प्रमुख शहरों में भेजा जाता है।

जिन प्रदेशों में कृषक केवल सब्जियाँ पैदा करता है वहाँ इसको 'ट्रक कृषि' का नाम दिया जाता है। ट्रक फार्म एवं बाजार के मध्य की दूरी, जो एक ट्रक रात भर में तय करता है, उसी आधार पर इसका नाम ट्रक कृषि रखा गया है।

पश्चिमी यूरोप एवं उत्तरी अमेरिका के औद्योगिक क्षेत्रों में उद्यान कृषि के अलावा कारखाना कृषि एक आधुनिक विकास है। इसमें पशुधन पाला जाता है जिनमें विशेषतः गाय-बैल एवं कुक्कुट होते हैं। इन्हें बाड़े पर कारखानों में तैयार भोजन पर रखा जाता है, एवं उनकी बीमारियों का भी ध्यान रखा जाता है। इसमें भवन निर्माण, विभिन्न कार्यों के लिए यंत्र, प्रकाश एवं ताप की व्यवस्था करने एवं पशु चिकित्सा के लिए बहुत अधिक धन की आवश्यकता होती है। अच्छी नस्ल का चुनाव और प्रजनन की वैज्ञानिक विधियों कुक्कुट एवं पशुपालन के महत्वपूर्ण लक्षण हैं।

कृषि जिसमें किसान केवल सब्जी उगाने में विशिष्टीकरण रखते हैं _____ कहलाती है।

- (1) ट्रक कृषि
- (2) कारखाना कृषि
- (3) एपिकल्चर
- (4) उद्यान कृषि

Options :

212807128233. 1
212807128234. 2
212807128235. 3
212807128236. 4

Question Number : 680 Question Id : 21280732060 Question Type : MCQ Option Shuffling : No Is Question Mandatory : No Calculator : None Response Time : N.A Think Time : N.A Minimum Instruction Time : 0

Correct Marks : 5 Wrong Marks : 1

Question Key Details :

Key	Value
Comprehension	Compl

Read the passage and answer the following question.

Market gardening and horticulture specialise in the cultivation of high value crops such as vegetables, fruits and flowers, solely for the urban markets. Farms are small and are located where there are good transportation links with the urban centre where high income group of consumers is located. It is both labour and capital intensive and lays emphasis on the use of irrigation, HYV seeds, fertilisers, insecticides, greenhouses and artificial heating in colder regions.

This type of agriculture is well developed in densely populated industrial districts of north west Europe, north eastern United States of America and the Mediterranean regions. The Netherlands specialises in growing flowers and horticultural crops especially tulips, which are flown to all major cities of Europe.

The regions where farmers specialise in vegetables only, the farming is know as **truck farming**. The distance of truck farms from the market is governed by the distance that a truck can cover overnight, hence the name truck farming.

In addition to market gardening, a modern development in the industrial regions of Western Europe and North America is factory farming. Livestock, particularly poultry and cattle rearing is done in stalls and pens, fed on manufactured feedstuff and carefully supervised against diseases. This requires heavy capital investment in terms of building, machinery for various operations, veterinary services and heating and lighting. One of the important features of poultry farming and cattle rearing is breed selection and scientific breeding.

Which of the following is NOT the characteristics features of factory farming ?

- (1) Mainly practised in the industrial regions of Western Europe.
- (2) Poultry and Cattle rearing is done in stalls and pens.
- (3) It requires smaller capital to start factory farming.
- (4) Breed selection and scientific breeding are very tmportant features.

Options :

- 212807128237. 1
- 212807128238. 2
- 212807128239. 3
- 212807128240. 4

Question Number : 680 Question Id : 21280732060 Question Type : MCQ Option Shuffling : No Is Question Mandatory : No Calculator : None Response Time : N.A Think Time : N.A Minimum Instruction Time : 0

Correct Marks : 5 Wrong Marks : 1

Question Key Details :

Key	Value
Comprehension	Comp1

गद्यांश को ध्यानपूर्वक पढ़िए और निम्न प्रश्न का उत्तर दीजिए :

बाजार सब्जी खेती एवं उद्यान कृषि में अधिक मुद्रा मिलने वाली फसलें जैसे सब्जियों, फल एवं पुष्प लगाए जाते हैं जिनकी माँग नगरीय क्षेत्रों में होती है। इस कृषि में खेतों का आकार छोटा होता है एवं खेत अच्छे यातायात साधनों के द्वारा नगरीय केंद्रों जहाँ ऊँची आय वाले उपभोक्ता रहते हैं। इसमें गहन श्रम एवं अधिक पूँजी की आवश्यकता होती है। इसके अतिरिक्त सिंचाई, उर्वरक, अच्छी किस्म के बीज, कीटनाशी, हरित गृह एवं शीत क्षेत्रों में कृत्रिम ताप का भी इस कृषि में उपयोग होता है।

इस प्रकार की कृषि उत्तरी पश्चिमी यूरोप, संयुक्त राज्य अमेरिका के उत्तरी पूर्वी भाग एवं भूमध्यसागरीय प्रदेश में अधिक विकसित है, जहाँ औद्योगिक क्षेत्रों में जनसंख्या घनत्व अधिक है। नीदरलैंड पुष्प उत्पादन में विशिष्टीकरण रखता है। यहाँ से बागवानी फसल विशेषतः ट्यूलिप (एक प्रकार का फूल) पूरे यूरोप के प्रमुख शहरों में भेजा जाता है।

जिन प्रदेशों में कृषक केवल सब्जियाँ पैदा करता है वहाँ इसको 'ट्रक कृषि' का नाम दिया जाता है। ट्रक फार्म एवं बाजार के मध्य की दूरी, जो एक ट्रक रात भर में तय करता है, उसी आधार पर इसका नाम ट्रक कृषि रखा गया है।

पश्चिमी यूरोप एवं उत्तरी अमेरिका के औद्योगिक क्षेत्रों में उद्यान कृषि के अलावा कारखाना कृषि एक आधुनिक विकास है। इसमें पशुधन पाला जाता है जिनमें विशेषतः गाय-बैल एवं कुक्कुट होते हैं। इन्हें बाड़े पर कारखानों में तैयार भोजन पर रखा जाता है, एवं उनकी बीमारियों का भी ध्यान रखा जाता है। इसमें भवन निर्माण, विभिन्न कार्यों के लिए यंत्र, प्रकाश एवं ताप की व्यवस्था करने एवं पशु चिकित्सा के लिए बहुत अधिक धन की आवश्यकता होती है। अच्छी नस्ल का चुनाव और प्रजनन की वैज्ञानिक विधियों कुक्कुट एवं पशुपालन के महत्वपूर्ण लक्षण हैं।

निम्न में से कौन सी कारखाना कृषि की विशेषता नहीं है?

- (1) पश्चिमी यूरोप के औद्योगिक प्रदेशों में मुख्य रूप से की जाती है
- (2) कुक्कुट और गाय बैल का पालन बाड़ों में किया जाता है
- (3) कारखाना कृषि शुरू करने के लिए छोटी पूँजी की आवश्यकता होती है
- (4) नस्ल का चुनाव और प्रजनन की वैज्ञानिक विधियाँ, बहुत महत्वपूर्ण लक्षण है

Options :

212807128237. 1
212807128238. 2
212807128239. 3
212807128240. 4

Sub-Section Number : 3
Sub-Section Id : 2128072526
Question Shuffling Allowed : No
Is Section Default? : null

Question Number : 681 Question Id : 21280732061 Question Type : MCQ Option Shuffling : No Is Question Mandatory : No Calculator : None
Response Time : N.A Think Time : N.A Minimum Instruction Time : 0

Correct Marks : 5 Wrong Marks : 1

Question Key Details :

Key	Value
Comprehension	Comp2

Read the given passage carefully and answer the following question.

An important aspect of population growth in India is the growth of its adolescents. At present, the share of adolescents i.e., up to the age group of 10-19 years is about 20.9 per cent (2011), among which male adolescents constitute 52.7 per cent and female adolescents constitute 47.3 per cent. The adolescent population, though, regarded as the youthful population having high potentials, but at the same time they are quite vulnerable if not guided and channelised properly. There are many challenges for the society as far as these adolescents are concerned, some of which are lower age at marriage, illiteracy - particularly female illiteracy, school dropouts, low intake of nutrients, high rate of maternal mortality of adolescent mothers, high rate of HIV and AIDS infections, physical and mental disability or retardedness, drug abuse and alcoholism, juvenile delinquency and committence of crimes, etc.

In view of these, the Government of India has undertaken certain policies to impart proper education to the adolescent groups so that their talents are better channelised and properly utilised. The National Youth Policy is one example which has been designed to look into the overall development of our large youth and adolescent population.

The National Youth Policy (NYP-2014) launched in February 2014 proposes a holistic 'vision' for the youth of India, which is "To empower the youth of the country to achieve their full potential, and through them enable India to find its rightful place in the community of nations". The NYP-2014 has defined 'youth as persons in the age group of 15-29 years.

According to the National Youth Policy - 2014, youth is considered as persons falling in the age group of _____.

- (1) 10 - 15 years
- (2) 10 - 29 years
- (3) 12 - 15 years
- (4) 15 - 29 years

Options :

- 212807128241. 1
- 212807128242. 2
- 212807128243. 3
- 212807128244. 4

Question Number : 681 Question Id : 21280732061 Question Type : MCQ Option Shuffling : No Is Question Mandatory : No Calculator : None
Response Time : N.A Think Time : N.A Minimum Instruction Time : 0

Correct Marks : 5 Wrong Marks : 1

Question Key Details :

Key	Value
Comprehension	Comp2

गद्यांश को ध्यानपूर्वक पढ़िए और निम्न प्रश्न का उत्तर दीजिए :

भारत में जनसंख्या वृद्धि का एक महत्वपूर्ण पक्ष इसके किशोरों का विकास है। वर्तमान में किशोरों अर्थात् 10-19 वर्ष का आयु वर्ग का अंश 20.9 प्रतिशत है (2011), जिसमें 52.7 प्रतिशत किशोर और 47.3 प्रतिशत किशोरियाँ सम्मिलित हैं। किशोर जनसंख्या, यद्यपि उच्च संभावनाओं से युक्त युवा जनसंख्या समझी जाती है, यदि उन्हें समुचित ढंग से मार्गदर्शित और दिशा निर्देशित न किया जाए तो वे काफी सुभेद्य (vulnerable) भी होते हैं। जहाँ तक इन किशोरों का संबंध है समाज के समक्ष अनेक चुनौतियाँ हैं जिनमें से कुछ विवाह के समय निम्न आयु, निरक्षरता-विशेषता:स्त्री निरक्षरता, विद्यालय विरतछात्र (school dropout), पोषकों की निम्न ग्राह्यता, किशोरी माताओं में उच्च मातृ मृत्यु दर, एच.आई.वी./एड्स के संक्रमण की उच्च दरें, शारीरिक और मानसिक अपंगता अथवा मंदता, औषध दुरुपयोग और मदिरा सेवन, किशोर अपचार और अपराध करना इत्यादी हैं।

इन तथ्यों को दृष्टिगत रखते हुए भारत सरकार ने किशोर वर्गों को उपयुक्त शिक्षा प्रदान करने के लिए कुछ निश्चित नीतियाँ बनाई हैं ताकि उनके गुणों का बेहतर मार्गदर्शन और उपयुक्त उपयोग किया जा सके। राष्ट्रीय युवा नीति एक ऐसा उदाहरण है जिसे हमारी विशाल, युवा और किशोर जनसंख्या के समग्र विकास की देखरेख हेतु अभिकल्पित किया गया है।

राष्ट्रीय युवा नीति (NYP-2014) फरवरी 2014 में आरंभ की गई है जो भारत के युवाओं के लिए एक समग्र दूरदर्शी प्रस्ताव रखती है। “देश के युवाओं को अपनी पूरी क्षमता का उपयोग करने के लिए सक्षम बनाना और उनके द्वारा भारत को राष्ट्रों के समूह में अपना उचित स्थान प्राप्त करने में सक्षम बनाना है।” राष्ट्रीय युवा नीति 2014, 15-29 वर्ष के आयु समूह के व्यक्ति को ‘युवा’ के रूप में परिभाषित करती है।

राष्ट्रीय युवा नीति-2014 के अनुसार, _____ आयु समूह के व्यक्ति को युवा माना गया है।

- (1) 10 - 15 वर्ष
- (2) 10 - 29 वर्ष
- (3) 12 - 15 वर्ष
- (4) 15 - 29 वर्ष

Options :

212807128241. 1
212807128242. 2
212807128243. 3
212807128244. 4

Question Number : 682 Question Id : 21280732062 Question Type : MCQ Option Shuffling : No Is Question Mandatory : No Calculator : None
Response Time : N.A Think Time : N.A Minimum Instruction Time : 0

Correct Marks : 5 Wrong Marks : 1

Question Key Details :

Key	Value
Comprehension	Comp2

Read the given passage carefully and answer the following question.

An important aspect of population growth in India is the growth of its adolescents. At present, the share of adolescents i.e., up to the age group of 10-19 years is about 20.9 per cent (2011), among which male adolescents constitute 52.7 per cent and female adolescents constitute 47.3 per cent. The adolescent population, though, regarded as the youthful population having high potentials, but at the same time they are quite vulnerable if not guided and channelised properly. There are many challenges for the society as far as these adolescents are concerned, some of which are lower age at marriage, illiteracy - particularly female illiteracy, school dropouts, low intake of nutrients, high rate of maternal mortality of adolescent mothers, high rate of HIV and AIDS infections, physical and mental disability or retardedness, drug abuse and alcoholism, juvenile delinquency and committence of crimes, etc.

In view of these, the Government of India has undertaken certain policies to impart proper education to the adolescent groups so that their talents are better channelised and properly utilised. The National Youth Policy is one example which has been designed to look into the overall development of our large youth and adolescent population.

The National Youth Policy (NYP-2014) launched in February 2014 proposes a holistic 'vision' for the youth of India, which is "To empower the youth of the country to achieve their full potential, and through them enable India to find its rightful place in the community of nations". The NYP-2014 has defined 'youth as persons in the age group of 15-29 years.

National Youth Policy was launched in :

- (1) January 2014
- (2) February 2014
- (3) April 2014
- (4) May 2014

Options :

- 212807128245. 1
- 212807128246. 2
- 212807128247. 3
- 212807128248. 4

Question Number : 682 Question Id : 21280732062 Question Type : MCQ Option Shuffling : No Is Question Mandatory : No Calculator : None Response Time : N.A Think Time : N.A Minimum Instruction Time : 0

Correct Marks : 5 Wrong Marks : 1

Question Key Details :

Key	Value
Comprehension	Comp2

गद्यांश को ध्यानपूर्वक पढ़िए और निम्न प्रश्न का उत्तर दीजिए :

भारत में जनसंख्या वृद्धि का एक महत्वपूर्ण पक्ष इसके किशोरों का विकास है। वर्तमान में किशोरों अर्थात् 10-19 वर्ष का आयु वर्ग का अंश 20.9 प्रतिशत है (2011), जिसमें 52.7 प्रतिशत किशोर और 47.3 प्रतिशत किशोरियाँ सम्मिलित हैं। किशोर जनसंख्या, यद्यपि उच्च संभावनाओं से युक्त युवा जनसंख्या समझी जाती है, यदि उन्हें समुचित ढंग से मार्गदर्शित और दिशा निर्देशित न किया जाए तो वे काफी सुभेद्य (vulnerable) भी होते हैं। जहाँ तक इन किशोरों का संबंध है समाज के समक्ष अनेक चुनौतियाँ हैं जिनमें से कुछ विवाह के समय निम्न आयु, निरक्षरता-विशेषता:स्त्री निरक्षरता, विद्यालय विरतछात्र (school dropout), पोषकों की निम्न ग्राह्यता, किशोरी माताओं में उच्च मातृ मृत्यु दर, एच.आई.वी./एड्स के संक्रमण की उच्च दरें, शारीरिक और मानसिक अपंगता अथवा मंदता, औषध दुरुपयोग और मदिरा सेवन, किशोर अपचार और अपराध करना इत्यादी हैं।

इन तथ्यों को दृष्टिगत रखते हुए भारत सरकार ने किशोर वर्गों को उपयुक्त शिक्षा प्रदान करने के लिए कुछ निश्चित नीतियाँ बनाई हैं ताकि उनके गुणों का बेहतर मार्गदर्शन और उपयुक्त उपयोग किया जा सके। राष्ट्रीय युवा नीति एक ऐसा उदाहरण है जिसे हमारी विशाल, युवा और किशोर जनसंख्या के समग्र विकास की देखरेख हेतु अभिकल्पित किया गया है।

राष्ट्रीय युवा नीति (NYP-2014) फरवरी 2014 में आरंभ की गई है जो भारत के युवाओं के लिए एक समग्र दूरदर्शी प्रस्ताव रखती है। “देश के युवाओं को अपनी पूरी क्षमता का उपयोग करने के लिए सक्षम बनाना और उनके द्वारा भारत को राष्ट्रों के समूह में अपना उचित स्थान प्राप्त करने में सक्षम बनाना है।” राष्ट्रीय युवा नीति 2014, 15-29 वर्ष के आयु समूह के व्यक्ति को ‘युवा’ के रूप में परिभाषित करती है।

राष्ट्रीय युवा नीति आरंभ की गई थी :

- (1) जनवरी 2014
- (2) फरवरी 2014
- (3) अप्रैल 2014
- (4) मई 2014

Options :

212807128245. 1
212807128246. 2
212807128247. 3
212807128248. 4

Question Number : 683 Question Id : 21280732063 Question Type : MCQ Option Shuffling : No Is Question Mandatory : No Calculator : None
Response Time : N.A Think Time : N.A Minimum Instruction Time : 0

Correct Marks : 5 Wrong Marks : 1

Question Key Details :

Key	Value
Comprehension	Comp2

Read the given passage carefully and answer the following question.

An important aspect of population growth in India is the growth of its adolescents. At present, the share of adolescents i.e., up to the age group of 10-19 years is about 20.9 per cent (2011), among which male adolescents constitute 52.7 per cent and female adolescents constitute 47.3 per cent. The adolescent population, though, regarded as the youthful population having high potentials, but at the same time they are quite vulnerable if not guided and channelised properly. There are many challenges for the society as far as these adolescents are concerned, some of which are lower age at marriage, illiteracy - particularly female illiteracy, school dropouts, low intake of nutrients, high rate of maternal mortality of adolescent mothers, high rate of HIV and AIDS infections, physical and mental disability or retardedness, drug abuse and alcoholism, juvenile delinquency and committence of crimes, etc.

In view of these, the Government of Indra has undertaken certain policies to impart proper education to the adolescent groups so that their talents are better channelised and properly utilised. The National Youth Policy is one example which has been designed to look into the overall development of our large youth and adolescent population.

The National Youth Policy (NYP-2014) launched in February 2014 proposes a holistic 'vision' for the youth of Indra, which is "To empower the youth of the country to achieve their full potential, and through them enable India to find its rightful place in the community of nations". The NYP-2014 has defined 'youth as persons in the age group of 15-29 years.

_____ is the difference between male and female adolescents, according to 2011 census ?

- (1) 3.4%
- (2) 4.4%
- (3) 5.4%
- (4) 6.4%

Options :

- 212807128249. 1
- 212807128250. 2
- 212807128251. 3
- 212807128252. 4

Question Number : 683 Question Id : 21280732063 Question Type : MCQ Option Shuffling : No Is Question Mandatory : No Calculator : None Response Time : N.A Think Time : N.A Minimum Instruction Time : 0

Correct Marks : 5 Wrong Marks : 1

Question Key Details :

Key	Value
Comprehension	Comp2

गद्यांश को ध्यानपूर्वक पढ़िए और निम्न प्रश्न का उत्तर दीजिए :

भारत में जनसंख्या वृद्धि का एक महत्वपूर्ण पक्ष इसके किशोरों का विकास है। वर्तमान में किशोरों अर्थात् 10-19 वर्ष का आयु वर्ग का अंश 20.9 प्रतिशत है (2011), जिसमें 52.7 प्रतिशत किशोर और 47.3 प्रतिशत किशोरियाँ सम्मिलित हैं। किशोर जनसंख्या, यद्यपि उच्च संभावनाओं से युक्त युवा जनसंख्या समझी जाती है, यदि उन्हें समुचित ढंग से मार्गदर्शित और दिशा निर्देशित न किया जाए तो वे काफी सुभेद्य (vulnerable) भी होते हैं। जहाँ तक इन किशोरों का संबंध है समाज के समक्ष अनेक चुनौतियाँ हैं जिनमें से कुछ विवाह के समय निम्न आयु, निरक्षरता-विशेषता:स्त्री निरक्षरता, विद्यालय विरतछात्र (school dropout), पोषकों की निम्न ग्राह्यता, किशोरी माताओं में उच्च मातृ मृत्यु दर, एच.आई.वी./एड्स के संक्रमण की उच्च दरें, शारीरिक और मानसिक अपंगता अथवा मंदता, औषध दुरुपयोग और मदिरा सेवन, किशोर अपचार और अपराध करना इत्यादी हैं।

इन तथ्यों को दृष्टिगत रखते हुए भारत सरकार ने किशोर वर्गों को उपयुक्त शिक्षा प्रदान करने के लिए कुछ निश्चित नीतियाँ बनाई हैं ताकि उनके गुणों का बेहतर मार्गदर्शन और उपयुक्त उपयोग किया जा सके। राष्ट्रीय युवा नीति एक ऐसा उदाहरण है जिसे हमारी विशाल, युवा और किशोर जनसंख्या के समग्र विकास की देखरेख हेतु अभिकल्पित किया गया है।

राष्ट्रीय युवा नीति (NYP-2014) फरवरी 2014 में आरंभ की गई है जो भारत के युवाओं के लिए एक समग्र दूरदर्शी प्रस्ताव रखती है। “देश के युवाओं को अपनी पूरी क्षमता का उपयोग करने के लिए सक्षम बनाना और उनके द्वारा भारत को राष्ट्रों के समूह में अपना उचित स्थान प्राप्त करने में सक्षम बनाना है।” राष्ट्रीय युवा नीति 2014, 15-29 वर्ष के आयु समूह के व्यक्ति को ‘युवा’ के रूप में परिभाषित करती है।

2011 की जनगणना के अनुसार पुरुष और महिला किशोरों का अन्तर _____ है।

- (1) 3.4%
- (2) 4.4%
- (3) 5.4%
- (4) 6.4%

Options :

212807128249. 1
212807128250. 2
212807128251. 3
212807128252. 4

Question Number : 684 Question Id : 21280732064 Question Type : MCQ Option Shuffling : No Is Question Mandatory : No Calculator : None
Response Time : N.A Think Time : N.A Minimum Instruction Time : 0

Correct Marks : 5 Wrong Marks : 1

Question Key Details :

Key	Value
Comprehension	Comp2

Read the given passage carefully and answer the following question.

An important aspect of population growth in India is the growth of its adolescents. At present, the share of adolescents i.e., up to the age group of 10-19 years is about 20.9 per cent (2011), among which male adolescents constitute 52.7 per cent and female adolescents constitute 47.3 per cent. The adolescent population, though, regarded as the youthful population having high potentials, but at the same time they are quite vulnerable if not guided and channelised properly. There are many challenges for the society as far as these adolescents are concerned, some of which are lower age at marriage, illiteracy - particularly female illiteracy, school dropouts, low intake of nutrients, high rate of maternal mortality of adolescent mothers, high rate of HIV and AIDS infections, physical and mental disability or retardedness, drug abuse and alcoholism, juvenile delinquency and committence of crimes, etc.

In view of these, the Government of India has undertaken certain policies to impart proper education to the adolescent groups so that their talents are better channelised and properly utilised. The National Youth Policy is one example which has been designed to look into the overall development of our large youth and adolescent population.

The National Youth Policy (NYP-2014) launched in February 2014 proposes a holistic 'vision' for the youth of India, which is "To empower the youth of the country to achieve their full potential, and through them enable India to find its rightful place in the community of nations". The NYP-2014 has defined 'youth as persons in the age group of 15-29 years.

The main objective of Nation Youth Policy is _____.

- (1) Overall development of all male youths and adolescents
- (2) Overall development of all female youths and adolescents
- (3) Overall development of all school and college going children
- (4) Overall development of all youths and adolescents

Options :

212807128253. 1

212807128254. 2

212807128255. 3

212807128256. 4

Question Number : 684 Question Id : 21280732064 Question Type : MCQ Option Shuffling : No Is Question Mandatory : No Calculator : None
Response Time : N.A Think Time : N.A Minimum Instruction Time : 0

Correct Marks : 5 Wrong Marks : 1

Question Key Details :

Key	Value
Comprehension	Comp2

गद्यांश को ध्यानपूर्वक पढ़िए और निम्न प्रश्न का उत्तर दीजिए :

भारत में जनसंख्या वृद्धि का एक महत्वपूर्ण पक्ष इसके किशोरों का विकास है। वर्तमान में किशोरों अर्थात् 10-19 वर्ष का आयु वर्ग का अंश 20.9 प्रतिशत है (2011), जिसमें 52.7 प्रतिशत किशोर और 47.3 प्रतिशत किशोरियाँ सम्मिलित हैं। किशोर जनसंख्या, यद्यपि उच्च संभावनाओं से युक्त युवा जनसंख्या समझी जाती है, यदि उन्हें समुचित ढंग से मार्गदर्शित और दिशा निर्देशित न किया जाए तो वे काफी सुभेद्य (vulnerable) भी होते हैं। जहाँ तक इन किशोरों का संबंध है समाज के समक्ष अनेक चुनौतियाँ हैं जिनमें से कुछ विवाह के समय निम्न आयु, निरक्षरता-विशेषता:स्त्री निरक्षरता, विद्यालय विरतछात्र (school dropout), पोषकों की निम्न ग्राह्यता, किशोरी माताओं में उच्च मातृ मृत्यु दर, एच.आई.वी./एड्स के संक्रमण की उच्च दरें, शारीरिक और मानसिक अपंगता अथवा मंदता, औषध दुरुपयोग और मदिरा सेवन, किशोर अपचार और अपराध करना इत्यादी हैं।

इन तथ्यों को दृष्टिगत रखते हुए भारत सरकार ने किशोर वर्गों को उपयुक्त शिक्षा प्रदान करने के लिए कुछ निश्चित नीतियाँ बनाई हैं ताकि उनके गुणों का बेहतर मार्गदर्शन और उपयुक्त उपयोग किया जा सके। राष्ट्रीय युवा नीति एक ऐसा उदाहरण है जिसे हमारी विशाल, युवा और किशोर जनसंख्या के समग्र विकास की देखरेख हेतु अभिकल्पित किया गया है।

राष्ट्रीय युवा नीति (NYP-2014) फरवरी 2014 में आरंभ की गई है जो भारत के युवाओं के लिए एक समग्र दूरदर्शी प्रस्ताव रखती है। “देश के युवाओं को अपनी पूरी क्षमता का उपयोग करने के लिए सक्षम बनाना और उनके द्वारा भारत को राष्ट्रों के समूह में अपना उचित स्थान प्राप्त करने में सक्षम बनाना है।” राष्ट्रीय युवा नीति 2014, 15-29 वर्ष के आयु समूह के व्यक्ति को ‘युवा’ के रूप में परिभाषित करती है।

राष्ट्रीय युवा नीति का मुख्य उद्देश्य _____ है।

- (1) सभी पुरुष युवाओं और किशोरों का सर्वांगीण विकास
- (2) सभी महिला युवाओं और किशोरों (किशोरियों) का सर्वांगीण विकास
- (3) सभी स्कूल और कॉलेज जाने वाले बच्चों का सर्वांगीण विकास
- (4) सभी युवाओं और किशोरों का सर्वांगीण विकास

Options :

212807128253. 1
212807128254. 2
212807128255. 3
212807128256. 4

Question Number : 685 Question Id : 21280732065 Question Type : MCQ Option Shuffling : No Is Question Mandatory : No Calculator : None Response Time : N.A Think Time : N.A Minimum Instruction Time : 0

Correct Marks : 5 Wrong Marks : 1

Question Key Details :

Key	Value
Comprehension	Comp2

Read the given passage carefully and answer the following question.

An important aspect of population growth in India is the growth of its adolescents. At present, the share of adolescents i.e., up to the age group of 10-19 years is about 20.9 per cent (2011), among which male adolescents constitute 52.7 per cent and female adolescents constitute 47.3 per cent. The adolescent population, though, regarded as the youthful population having high potentials, but at the same time they are quite vulnerable if not guided and channelised properly. There are many challenges for the society as far as these adolescents are concerned, some of which are lower age at marriage, illiteracy - particularly female illiteracy, school dropouts, low intake of nutrients, high rate of maternal mortality of adolescent mothers, high rate of HIV and AIDS infections, physical and mental disability or retardedness, drug abuse and alcoholism, juvenile delinquency and committence of crimes, etc.

In view of these, the Government of Indra has undertaken certain policies to impart proper education to the adolescent groups so that their talents are better channelised and properly utilised. The National Youth Policy is one example which has been designed to look into the overall development of our large youth and adolescent population.

The National Youth Policy (NYP-2014) launched in February 2014 proposes a holistic 'vision' for the youth of Indra, which is "To empower the youth of the country to achieve their full potential, and through them enable India to find its rightful place in the community of nations". The NYP-2014 has defined 'youth as persons in the age group of 15-29 years.

Adolescents are _____ age group of persons.

- (1) 10 - 13 years
- (2) 10 - 15 years
- (3) 10 - 19 years
- (4) 10 - 25 years

Options :

- 212807128257. 1
- 212807128258. 2
- 212807128259. 3
- 212807128260. 4

Question Number : 685 Question Id : 21280732065 Question Type : MCQ Option Shuffling : No Is Question Mandatory : No Calculator : None Response Time : N.A Think Time : N.A Minimum Instruction Time : 0

Correct Marks : 5 Wrong Marks : 1

Question Key Details :

Key	Value
Comprehension	Comp2

गद्यांश को ध्यानपूर्वक पढ़िए और निम्न प्रश्न का उत्तर दीजिए :

भारत में जनसंख्या वृद्धि का एक महत्वपूर्ण पक्ष इसके किशोरों का विकास है। वर्तमान में किशोरों अर्थात् 10-19 वर्ष का आयु वर्ग का अंश 20.9 प्रतिशत है (2011), जिसमें 52.7 प्रतिशत किशोर और 47.3 प्रतिशत किशोरियाँ सम्मिलित हैं। किशोर जनसंख्या, यद्यपि उच्च संभावनाओं से युक्त युवा जनसंख्या समझी जाती है, यदि उन्हें समुचित ढंग से मार्गदर्शित और दिशा निर्देशित न किया जाए तो वे काफी सुभेद्य (vulnerable) भी होते हैं। जहाँ तक इन किशोरों का संबंध है समाज के समक्ष अनेक चुनौतियाँ हैं जिनमें से कुछ विवाह के समय निम्न आयु, निरक्षरता-विशेषता:स्त्री निरक्षरता, विद्यालय विरतछात्र (school dropout), पोषकों की निम्न ग्राह्यता, किशोरी माताओं में उच्च मातृ मृत्यु दर, एच.आई.वी./एड्स के संक्रमण की उच्च दरें, शारीरिक और मानसिक अपंगता अथवा मंदता, औषध दुरुपयोग और मदिरा सेवन, किशोर अपचार और अपराध करना इत्यादी हैं।

इन तथ्यों को दृष्टिगत रखते हुए भारत सरकार ने किशोर वर्गों को उपयुक्त शिक्षा प्रदान करने के लिए कुछ निश्चित नीतियाँ बनाई हैं ताकि उनके गुणों का बेहतर मार्गदर्शन और उपयुक्त उपयोग किया जा सके। राष्ट्रीय युवा नीति एक ऐसा उदाहरण है जिसे हमारी विशाल, युवा और किशोर जनसंख्या के समग्र विकास की देखरेख हेतु अभिकल्पित किया गया है।

राष्ट्रीय युवा नीति (NYP-2014) फरवरी 2014 में आरंभ की गई है जो भारत के युवाओं के लिए एक समग्र दूरदर्शी प्रस्ताव रखती है। “देश के युवाओं को अपनी पूरी क्षमता का उपयोग करने के लिए सक्षम बनाना और उनके द्वारा भारत को राष्ट्रों के समूह में अपना उचित स्थान प्राप्त करने में सक्षम बनाना है।” राष्ट्रीय युवा नीति 2014, 15-29 वर्ष के आयु समूह के व्यक्ति को ‘युवा’ के रूप में परिभाषित करती है।

किशोर _____ आयु समूह के व्यक्ति हैं।

- (1) 10 से 13 वर्ष
- (2) 10 से 15 वर्ष
- (3) 10 से 19 वर्ष
- (4) 10 से 25 वर्ष

Options :

212807128257. 1
212807128258. 2
212807128259. 3
212807128260. 4

History

Group Number :	20
Group Id :	212807744
Group Maximum Duration :	45
Group Minimum Duration :	45
Show Attended Group? :	No
Edit Attended Group? :	No
Break time :	0
Group Marks :	200
Is this Group for Examiner? :	No
Examiner permission :	Can View
Show Progress Bar? :	No

History

Section Id :	212807876
Section Number :	1
Section type :	Online

Mandatory or Optional : Mandatory
Number of Questions : 50
Number of Questions to be attempted : 40
Section Marks : 200
Enable Mark as Answered Mark for Review and Clear Response : Yes
Maximum Instruction Time : 0
Sub-Section Number : 1
Sub-Section Id : 2128072527
Question Shuffling Allowed : Yes
Is Section Default? : null

Question Number : 686 Question Id : 21280732116 Question Type : MCQ Option Shuffling : No Is Question Mandatory : No Calculator : None Response Time : N.A Think Time : N.A Minimum Instruction Time : 0

Correct Marks : 5 Wrong Marks : 1

Question Key Details :

Key	Value
Comprehension	MCQ

'Palaeography' refers to :

- (1) Study of inscriptions
- (2) Study of writing styles
- (3) Study of stone tools
- (4) Study of pottery styles

Options :

212807128461. 1
212807128462. 2
212807128463. 3
212807128464. 4

Question Number : 686 Question Id : 21280732116 Question Type : MCQ Option Shuffling : No Is Question Mandatory : No Calculator : None Response Time : N.A Think Time : N.A Minimum Instruction Time : 0

Correct Marks : 5 Wrong Marks : 1

Question Key Details :

Key	Value
Comprehension	MCQ

'पुरालिपिशास्त्र' से अभिप्राय :

- (1) अभिलेखों का अध्ययन
- (2) लेखन शैली का अध्ययन
- (3) पत्थर के औजारों का अध्ययन
- (4) बर्तनों की शैली का अध्ययन

Options :

212807128461. 1
212807128462. 2
212807128463. 3
212807128464. 4

Question Number : 687 Question Id : 21280732117 Question Type : MCQ Option Shuffling : No Is Question Mandatory : No Calculator : None Response Time : N.A Think Time : N.A Minimum Instruction Time : 0

Correct Marks : 5 Wrong Marks : 1

Question Key Details :

Key	Value
Comprehension	MCQ

Arrange the following kingdoms from North to South.

- (A) Vakatakas
- (B) Kushanas
- (C) Satavahanas
- (D) Cholas
- (E) Guptas

Choose the correct answer from the options given below :

- (1) (A), (B), (C), (D), (E)
- (2) (E), (D), (C), (B), (A)
- (3) (A), (E), (B), (C), (D)
- (4) (B), (E), (A), (C), (D)

Options :

- 212807128465. 1
- 212807128466. 2
- 212807128467. 3
- 212807128468. 4

Question Number : 687 Question Id : 21280732117 Question Type : MCQ Option Shuffling : No Is Question Mandatory : No Calculator : None Response Time : N.A Think Time : N.A Minimum Instruction Time : 0

Correct Marks : 5 Wrong Marks : 1

Question Key Details :

Key	Value
Comprehension	MCQ

निम्नलिखित राजवंशों को उत्तर से दक्षिण के क्रम में व्यवस्थित करें।

- (A) वाकाटक
- (B) कुषाण
- (C) सातवाहन
- (D) चोल
- (E) गुप्त

नीचे दिए गए विकल्पों में से सही उत्तर का चयन करें :

- (1) (A), (B), (C), (D), (E)
- (2) (E), (D), (C), (B), (A)
- (3) (A), (E), (B), (C), (D)
- (4) (B), (E), (A), (C), (D)

Options :

- 212807128465. 1
- 212807128466. 2
- 212807128467. 3
- 212807128468. 4

Question Number : 688 Question Id : 21280732118 Question Type : MCQ Option Shuffling : No Is Question Mandatory : No Calculator : None Response Time : N.A Think Time : N.A Minimum Instruction Time : 0

Correct Marks : 5 Wrong Marks : 1

Question Key Details :

Key	Value
Comprehension	MCQ

Which of the following statements are TRUE about Asokan inscriptions ?

- (A) Most Asokan inscriptions were in Prakrit language.
- (B) Most Prakrit inscriptions were written in the Kharosthi script.
- (C) Most Prakrit inscriptions of Asoka were written in Brahmi script.
- (D) Aramaic script was used for inscriptions in South India.
- (E) Greek scripts were used for inscriptions in the northwest of the subcontinent.

Choose the correct answer from the options given below :

- (1) (C), (D), (E) Only
- (2) (A), (D), (E) Only
- (3) (A), (C), (E) Only
- (4) (A), (B), (C) Only

Options :

- 212807128469. 1
- 212807128470. 2
- 212807128471. 3
- 212807128472. 4

Question Number : 688 Question Id : 21280732118 Question Type : MCQ Option Shuffling : No Is Question Mandatory : No Calculator : None Response Time : N.A Think Time : N.A Minimum Instruction Time : 0

Correct Marks : 5 Wrong Marks : 1

Question Key Details :

Key	Value
Comprehension	MCQ

निम्नलिखित में से कौन सा कथन अशोक कालीन अभिलेखों के लिए सत्य है ?

- (A) ज्यादातर अशोकीय अभिलेख प्राकृत भाषा में हैं।
- (B) अधिकतर प्राकृत अभिलेख खरोष्ठीलिपि में लिखे गए हैं।
- (C) अशोक के अधिकतर प्राकृत अभिलेख ब्राह्मी लिपि में लिखे गए हैं।
- (D) दक्षिण भारतीय अभिलेखों के लिए अरामिक लिपि का प्रयोग हुआ है।
- (E) उत्तर पश्चिमी महाद्वीपों अभिलेखों के लिए ग्रीक लिपि का प्रयोग हुआ है।

नीचे दिए गए विकल्पों में से सही उत्तर का चयन करें :

- (1) केवल (C), (D), (E)
- (2) केवल (A), (D), (E)
- (3) केवल (A), (C), (E)
- (4) केवल (A), (B), (C)

Options :

- 212807128469. 1
- 212807128470. 2
- 212807128471. 3
- 212807128472. 4

Question Number : 689 Question Id : 21280732119 Question Type : MCQ Option Shuffling : No Is Question Mandatory : No Calculator : None Response Time : N.A Think Time : N.A Minimum Instruction Time : 0

Correct Marks : 5 Wrong Marks : 1

Question Key Details :

Key	Value
Comprehension	MCQ

Match List - I with List - II :

List - I	List - II
(A) Gotami	(I) Vakatakas
(B) Draupadi	(II) Mahabharata
(C) Prabhavati Gupta	(III) Matanga Jataka
(D) Dittha Mangalika	(IV) Satavahanas

Choose the **correct** answer from the options given below :

- (1) (A)-(I), (B)-(II), (C)-(IV), (D)-(III)
- (2) (A)-(IV), (B)-(II), (C)-(I), (D)-(III)
- (3) (A)-(III), (B)-(II), (C)-(IV), (D)-(I)
- (4) (A)-(I), (B)-(II), (C)-(III), (D)-(IV)

Options :

212807128473. 1

212807128474. 2

212807128475. 3

212807128476. 4

Question Number : 689 Question Id : 21280732119 Question Type : MCQ Option Shuffling : No Is Question Mandatory : No Calculator : None Response Time : N.A Think Time : N.A Minimum Instruction Time : 0

Correct Marks : 5 Wrong Marks : 1

Question Key Details :

Key	Value
Comprehension	MCQ

सूची - I का सूची - II से मिलान करें :

सूची - I	सूची - II
(A) गौतमी	(I) वाकाटक
(B) द्रोपदी	(II) महाभारत
(C) प्रभावती गुप्त	(III) मातंग जातक
(D) डिथा मांगलिका	(IV) सातवाहन

नीचे दिए गए विकल्पों में से सही उत्तर का चयन करें :

- (1) (A)-(I), (B)-(II), (C)-(IV), (D)-(III)
- (2) (A)-(IV), (B)-(II), (C)-(I), (D)-(III)
- (3) (A)-(III), (B)-(II), (C)-(IV), (D)-(I)
- (4) (A)-(I), (B)-(II), (C)-(III), (D)-(IV)

Options :

212807128473. 1

212807128474. 2

212807128475. 3

212807128476. 4

Question Number : 690 Question Id : 21280732120 Question Type : MCQ Option Shuffling : No Is Question Mandatory : No Calculator : None Response Time : N.A Think Time : N.A Minimum Instruction Time : 0

Correct Marks : 5 Wrong Marks : 1

Question Key Details :

Key	Value
Comprehension	MCQ

The symbol of the 'wheel' in Buddhism stood for :

- (1) First sermon of Buddha
- (2) Buddha's Enlightenment
- (3) Mahaparinibbana
- (4) Meditation of Buddha

Options :

212807128477. 1
212807128478. 2
212807128479. 3
212807128480. 4

Question Number : 690 Question Id : 21280732120 Question Type : MCQ Option Shuffling : No Is Question Mandatory : No Calculator : None
Response Time : N.A Think Time : N.A Minimum Instruction Time : 0

Correct Marks : 5 Wrong Marks : 1

Question Key Details :

Key	Value
Comprehension	MCQ

बौद्ध धर्म में 'चक्र' संकेत पर आधारित है :

- (1) बुद्ध का पहला प्रवचन
- (2) बुद्ध को ज्ञान प्राप्ति
- (3) महापरिनिर्वाण
- (4) बुद्ध की साधना

Options :

212807128477. 1
212807128478. 2
212807128479. 3
212807128480. 4

Question Number : 691 Question Id : 21280732121 Question Type : MCQ Option Shuffling : No Is Question Mandatory : No Calculator : None
Response Time : N.A Think Time : N.A Minimum Instruction Time : 0

Correct Marks : 5 Wrong Marks : 1

Question Key Details :

Key	Value
Comprehension	MCQ

When was the Indian Museum at Calcutta was founded ?

- (1) 1814
- (2) 1914
- (3) 1955
- (4) 1989

Options :

212807128481. 1
212807128482. 2
212807128483. 3
212807128484. 4

Question Number : 691 Question Id : 21280732121 Question Type : MCQ Option Shuffling : No Is Question Mandatory : No Calculator : None
Response Time : N.A Think Time : N.A Minimum Instruction Time : 0

Correct Marks : 5 Wrong Marks : 1

Question Key Details :

Key	Value
Comprehension	MCQ

कलकत्ता के भारतीय संग्रहालय की स्थापना कब हुई?

- (1) 1814
- (2) 1914
- (3) 1955
- (4) 1989

Options :

- 212807128481. 1
- 212807128482. 2
- 212807128483. 3
- 212807128484. 4

Question Number : 692 Question Id : 21280732122 Question Type : MCQ Option Shuffling : No Is Question Mandatory : No Calculator : None
Response Time : N.A Think Time : N.A Minimum Instruction Time : 0

Correct Marks : 5 Wrong Marks : 1

Question Key Details :

Key	Value
Comprehension	MCQ

Arrange the following major Buddhist sites from north to south India.

- (A) Amaravati
- (B) Sanchi
- (C) Bharhut
- (D) Ajanta
- (E) Kusinagara

Choose the correct answer from the options given below :

- (1) (A), (B), (C), (D), (E)
- (2) (E), (C), (B), (D), (A)
- (3) (E), (D), (C), (B), (A)
- (4) (A), (E), (C), (D), (B)

Options :

- 212807128485. 1
- 212807128486. 2
- 212807128487. 3
- 212807128488. 4

Question Number : 692 Question Id : 21280732122 Question Type : MCQ Option Shuffling : No Is Question Mandatory : No Calculator : None
Response Time : N.A Think Time : N.A Minimum Instruction Time : 0

Correct Marks : 5 Wrong Marks : 1

Question Key Details :

Key	Value
Comprehension	MCQ

निम्नलिखित प्रमुख बौद्ध स्थलों को उत्तर से दक्षिण भारत के क्रम में व्यवस्थित करें :

- (A) अमरावती
- (B) साँची
- (C) भरहूत
- (D) अजंता
- (E) कुशीनगर

नीचे दिए गए विकल्पों में से सही उत्तर का चयन करें :

- (1) (A), (B), (C), (D), (E)
- (2) (E), (C), (B), (D), (A)
- (3) (E), (D), (C), (B), (A)
- (4) (A), (E), (C), (D), (B)

Options :

- 212807128485. 1
- 212807128486. 2
- 212807128487. 3
- 212807128488. 4

Question Number : 693 Question Id : 21280732123 Question Type : MCQ Option Shuffling : No Is Question Mandatory : No Calculator : None
Response Time : N.A Think Time : N.A Minimum Instruction Time : 0

Correct Marks : 5 Wrong Marks : 1

Question Key Details :

Key	Value
Comprehension	MCQ

Identify the terms associated with 'Buddhism' :

- (A) Gana
- (B) Dhamma
- (C) Ashvamedha
- (D) Mahavira
- (E) Sangha

Choose the correct answer from the options given below :

- (1) (A), (B), (D) Only
- (2) (A), (B), (E) Only
- (3) (B), (C), (E) Only
- (4) (A), (C), (D) Only

Options :

- 212807128489. 1
- 212807128490. 2
- 212807128491. 3
- 212807128492. 4

Question Number : 693 Question Id : 21280732123 Question Type : MCQ Option Shuffling : No Is Question Mandatory : No Calculator : None
Response Time : N.A Think Time : N.A Minimum Instruction Time : 0

Correct Marks : 5 Wrong Marks : 1

Question Key Details :

Key	Value
Comprehension	MCQ

बौद्ध धर्म से संबंधित पद की पहचान करें :

- (A) गण
- (B) धम्म
- (C) अश्वमेध
- (D) महावीर
- (E) संघ

नीचे दिए गए विकल्पों में से सही उत्तर का चयन करें :

- (1) केवल (A), (B), (D)
- (2) केवल (A), (B), (E)
- (3) केवल (B), (C), (E)
- (4) केवल (A), (C), (D)

Options :

- 212807128489. 1
- 212807128490. 2
- 212807128491. 3
- 212807128492. 4

Question Number : 694 Question Id : 21280732124 Question Type : MCQ Option Shuffling : No Is Question Mandatory : No Calculator : None
Response Time : N.A Think Time : N.A Minimum Instruction Time : 0

Correct Marks : 5 Wrong Marks : 1

Question Key Details :

Key	Value
Comprehension	MCQ

Match List - I with List - II :

List - I

- (A) Empty seat
- (B) Stupa
- (C) Elephant
- (D) Women holding onto a tree

List - II

- (I) Strength and wisdom
- (II) Meditation of the Buddha
- (III) Mahaparinibbana
- (IV) Shalabhanjika

Choose the correct answer from the options given below :

- (1) (A)-(III), (B)-(IV), (C)-(II), (D)-(I)
- (2) (A)-(IV), (B)-(III), (C)-(II), (D)-(I)
- (3) (A)-(I), (B)-(II), (C)-(III), (D)-(IV)
- (4) (A)-(II), (B)-(III), (C)-(I), (D)-(IV)

Options :

- 212807128493. 1
- 212807128494. 2
- 212807128495. 3
- 212807128496. 4

Question Number : 694 Question Id : 21280732124 Question Type : MCQ Option Shuffling : No Is Question Mandatory : No Calculator : None
Response Time : N.A Think Time : N.A Minimum Instruction Time : 0

Correct Marks : 5 Wrong Marks : 1

Question Key Details :

Key	Value
Comprehension	MCQ

सूची - I का सूची - II से मिलान करें :

सूची - I

- (A) खाली कुर्सी
- (B) स्तूप
- (C) हाथी
- (D) पेड़ को पकड़े स्त्री

सूची - II

- (I) शक्ति और प्रज्ञा
- (II) बुद्ध की साधना
- (III) महापरिनिर्वाण
- (IV) शालभाजिका

नीचे दिए गए विकल्पों में से सही उत्तर का चयन करें :

- (1) (A)-(III), (B)-(IV), (C)-(II), (D)-(I)
- (2) (A)-(IV), (B)-(III), (C)-(II), (D)-(I)
- (3) (A)-(I), (B)-(II), (C)-(III), (D)-(IV)
- (4) (A)-(II), (B)-(III), (C)-(I), (D)-(IV)

Options :

- 212807128493. 1
- 212807128494. 2
- 212807128495. 3
- 212807128496. 4

Question Number : 695 Question Id : 21280732125 Question Type : MCQ Option Shuffling : No Is Question Mandatory : No Calculator : None Response Time : N.A Think Time : N.A Minimum Instruction Time : 0

Correct Marks : 5 Wrong Marks : 1

Question Key Details :

Key	Value
Comprehension	MCQ

Who among the following traveller came from Uzbekistan ?

- (1) Ibn Battuta
- (2) Mahmud Wali Balkhi
- (3) Ahmad Abu Raihan al-Biruni
- (4) Abd al-Razzaq

Options :

- 212807128497. 1
- 212807128498. 2
- 212807128499. 3
- 212807128500. 4

Question Number : 695 Question Id : 21280732125 Question Type : MCQ Option Shuffling : No Is Question Mandatory : No Calculator : None Response Time : N.A Think Time : N.A Minimum Instruction Time : 0

Correct Marks : 5 Wrong Marks : 1

Question Key Details :

Key	Value
Comprehension	MCQ

इनमें से कौन सा यात्री उज्बेकिस्तान से आया ?

- (1) इब्न बतूता
- (2) महमूद वली बल्खी
- (3) अहमद अबु रैहान अल-बिरूनी
- (4) अब्दुल रज़्जाक

Options :

- 212807128497. 1

212807128498. 2
212807128499. 3
212807128500. 4

Question Number : 696 Question Id : 21280732126 Question Type : MCQ Option Shuffling : No Is Question Mandatory : No Calculator : None
Response Time : N.A Think Time : N.A Minimum Instruction Time : 0

Correct Marks : 5 Wrong Marks : 1

Question Key Details :

Key	Value
Comprehension	MCQ

Who was the diplomat from Herat visiting the Vijayanagara Empire in the fifteenth century ?

- (1) Al-Biruni
- (2) Abdur Razzaq
- (3) Ibn Battuta
- (4) Francois Bernier

Options :

212807128501. 1
212807128502. 2
212807128503. 3
212807128504. 4

Question Number : 696 Question Id : 21280732126 Question Type : MCQ Option Shuffling : No Is Question Mandatory : No Calculator : None
Response Time : N.A Think Time : N.A Minimum Instruction Time : 0

Correct Marks : 5 Wrong Marks : 1

Question Key Details :

Key	Value
Comprehension	MCQ

इनमें से कौन सा दूत हेरात से 15 वीं शताब्दी में विजयनगर साम्राज्य का दौरा करने आए ?

- (1) अल बिरूनी
- (2) अब्दुल रज्जाक
- (3) इब्न बतूता
- (4) फ्रांस्वा बर्नियर

Options :

212807128501. 1
212807128502. 2
212807128503. 3
212807128504. 4

Question Number : 697 Question Id : 21280732127 Question Type : MCQ Option Shuffling : No Is Question Mandatory : No Calculator : None
Response Time : N.A Think Time : N.A Minimum Instruction Time : 0

Correct Marks : 5 Wrong Marks : 1

Question Key Details :

Key	Value
Comprehension	MCQ

Identify the term used for 'Pilgrimage' in Chishti devotionalism.

- (1) Khanqah
- (2) Qalandars
- (3) Ziyarat
- (4) Sharia

Options :

212807128505. 1
212807128506. 2
212807128507. 3

Question Number : 697 Question Id : 21280732127 Question Type : MCQ Option Shuffling : No Is Question Mandatory : No Calculator : None
Response Time : N.A Think Time : N.A Minimum Instruction Time : 0

Correct Marks : 5 Wrong Marks : 1

Question Key Details :

Key	Value
Comprehension	MCQ

इनमें से चिश्ती उपासना में 'तीर्थयात्रा' के लिए कौन सा पद प्रयुक्त हुआ है?

- (1) खानकाह
- (2) कलंदर
- (3) ज़ियारत
- (4) शरिया

Options :

212807128505. 1
212807128506. 2
212807128507. 3
212807128508. 4

Question Number : 698 Question Id : 21280732128 Question Type : MCQ Option Shuffling : No Is Question Mandatory : No Calculator : None
Response Time : N.A Think Time : N.A Minimum Instruction Time : 0

Correct Marks : 5 Wrong Marks : 1

Question Key Details :

Key	Value
Comprehension	MCQ

Which of the following religious teachers during the medieval period were from Uttar Pradesh ?

- (A) Kabir
- (B) Mirabai
- (C) Raidas
- (D) Sri Chaitanya
- (E) Surdas

Choose the correct answer from the options given below :

- (1) (A), (B), (C) Only
- (2) (B), (C), (D) Only
- (3) (A), (C), (E) Only
- (4) (C), (D), (E) Only

Options :

212807128509. 1
212807128510. 2
212807128511. 3
212807128512. 4

Question Number : 698 Question Id : 21280732128 Question Type : MCQ Option Shuffling : No Is Question Mandatory : No Calculator : None
Response Time : N.A Think Time : N.A Minimum Instruction Time : 0

Correct Marks : 5 Wrong Marks : 1

Question Key Details :

Key	Value
Comprehension	MCQ

निम्न में से कौन से धार्मिक गुरु मध्यकालीन भारत में उत्तर प्रदेश से संबंधित थे ?

- (A) कबीर
- (B) मीराबाई
- (C) रेदास
- (D) श्री चैतन्य
- (E) सूरदास

नीचे दिए गए विकल्पों में से सही उत्तर का चयन करें :

- (1) केवल (A), (B), (C)
- (2) केवल (B), (C), (D)
- (3) केवल (A), (C), (E)
- (4) केवल (C), (D), (E)

Options :

- 212807128509. 1
- 212807128510. 2
- 212807128511. 3
- 212807128512. 4

Question Number : 699 Question Id : 21280732129 Question Type : MCQ Option Shuffling : No Is Question Mandatory : No Calculator : None
Response Time : N.A Think Time : N.A Minimum Instruction Time : 0

Correct Marks : 5 Wrong Marks : 1

Question Key Details :

Key	Value
Comprehension	MCQ

Match List - I with List - II :

List - I

- (A) Shaikh Nizammudin Auliya
- (B) Amir Khusrau
- (C) Ziyauddin Barani
- (D) Ghiyasuddin Khalji

List - II

- (I) Sultan of Malwa
- (II) Chisti Khanqah
- (III) Historian
- (IV) Poet

Choose the correct answer from the options given below :

- (1) (A)-(I), (B)-(II), (C)-(III), (D)-(IV)
- (2) (A)-(II), (B)-(IV), (C)-(III), (D)-(I)
- (3) (A)-(IV), (B)-(III), (C)-(II), (D)-(I)
- (4) (A)-(II), (B)-(III), (C)-(I), (D)-(IV)

Options :

- 212807128513. 1
- 212807128514. 2
- 212807128515. 3
- 212807128516. 4

Question Number : 699 Question Id : 21280732129 Question Type : MCQ Option Shuffling : No Is Question Mandatory : No Calculator : None
Response Time : N.A Think Time : N.A Minimum Instruction Time : 0

Correct Marks : 5 Wrong Marks : 1

Question Key Details :

Key	Value
Comprehension	MCQ

सूची - I का सूची - II से मिलान करें :

सूची - I

- (A) शेख निजामुद्दीन औलिया
- (B) अमीर खुसरौ
- (C) जियाउद्दीन बरनी
- (D) गियासुद्दीन खिलजी

सूची - II

- (I) मालवा के सुल्तान
- (II) चिश्ती खानक्राह
- (III) इतिहासकार
- (IV) कवि

नीचे दिए गए विकल्पों में से सही उत्तर का चयन करें :

- (1) (A)-(I), (B)-(II), (C)-(III), (D)-(IV)
- (2) (A)-(II), (B)-(IV), (C)-(III), (D)-(I)
- (3) (A)-(IV), (B)-(III), (C)-(II), (D)-(I)
- (4) (A)-(II), (B)-(III), (C)-(I), (D)-(IV)

Options :

- 212807128513. 1
- 212807128514. 2
- 212807128515. 3
- 212807128516. 4

Question Number : 700 Question Id : 21280732130 Question Type : MCQ Option Shuffling : No Is Question Mandatory : No Calculator : None Response Time : N.A Think Time : N.A Minimum Instruction Time : 0

Correct Marks : 5 Wrong Marks : 1

Question Key Details :

Key	Value
Comprehension	MCQ

Who discovered the ruins at Hampi and prepared first survey map of the site ?

- (1) John Marshall
- (2) Colin Mackenzie
- (3) Alexander Cunnigham
- (4) Domingo Paes

Options :

- 212807128517. 1
- 212807128518. 2
- 212807128519. 3
- 212807128520. 4

Question Number : 700 Question Id : 21280732130 Question Type : MCQ Option Shuffling : No Is Question Mandatory : No Calculator : None Response Time : N.A Think Time : N.A Minimum Instruction Time : 0

Correct Marks : 5 Wrong Marks : 1

Question Key Details :

Key	Value
Comprehension	MCQ

किसने हम्पी के अवशेषों की खोज की और इस स्थल का पहला सर्वेक्षण मानचित्र बनाया ?

- (1) जॉन मार्शल
- (2) कोलिन मेकेन्जी
- (3) एलेक्जेंडर कनिंघम
- (4) डोमिंगो पेस

Options :

- 212807128517. 1

212807128518. 2
212807128519. 3
212807128520. 4

Question Number : 701 Question Id : 21280732131 Question Type : MCQ Option Shuffling : No Is Question Mandatory : No Calculator : None
Response Time : N.A Think Time : N.A Minimum Instruction Time : 0

Correct Marks : 5 Wrong Marks : 1

Question Key Details :

Key	Value
Comprehension	MCQ

In which year was Hampi declared a World Heritage Site by UNESCO ?

- (1) 1986
- (2) 1902
- (3) 1876
- (4) 1856

Options :

212807128521. 1
212807128522. 2
212807128523. 3
212807128524. 4

Question Number : 701 Question Id : 21280732131 Question Type : MCQ Option Shuffling : No Is Question Mandatory : No Calculator : None
Response Time : N.A Think Time : N.A Minimum Instruction Time : 0

Correct Marks : 5 Wrong Marks : 1

Question Key Details :

Key	Value
Comprehension	MCQ

किस वर्ष में यूनेस्को द्वारा हम्पी को विश्व धरोहर स्थल घोषित किया ?

- (1) 1986
- (2) 1902
- (3) 1876
- (4) 1856

Options :

212807128521. 1
212807128522. 2
212807128523. 3
212807128524. 4

Question Number : 702 Question Id : 21280732132 Question Type : MCQ Option Shuffling : No Is Question Mandatory : No Calculator : None
Response Time : N.A Think Time : N.A Minimum Instruction Time : 0

Correct Marks : 5 Wrong Marks : 1

Question Key Details :

Key	Value
Comprehension	MCQ

Which famous temple is located in Thanjavur ?

- (1) Virupaksha Temple
- (2) Brihadishvara Temple
- (3) Chennakeshava Temple
- (4) Hazara Rama Temple

Options :

212807128525. 1
212807128526. 2
212807128527. 3
212807128528. 4

Question Number : 702 Question Id : 21280732132 Question Type : MCQ Option Shuffling : No Is Question Mandatory : No Calculator : None
Response Time : N.A Think Time : N.A Minimum Instruction Time : 0

Correct Marks : 5 Wrong Marks : 1

Question Key Details :

Key	Value
Comprehension	MCQ

तंजावुर का प्रसिद्ध मंदिर स्थित है?

- (1) विरूपाक्ष मंदिर
- (2) बृहदेश्वर मंदिर
- (3) छेन्नकेशवा मंदिर
- (4) हजारा राम मंदिर

Options :

212807128525. 1

212807128526. 2

212807128527. 3

212807128528. 4

Question Number : 703 Question Id : 21280732133 Question Type : MCQ Option Shuffling : No Is Question Mandatory : No Calculator : None
Response Time : N.A Think Time : N.A Minimum Instruction Time : 0

Correct Marks : 5 Wrong Marks : 1

Question Key Details :

Key	Value
Comprehension	MCQ

Arrange the following in a chronological order.

- (A) Aravindu dynasty
- (B) Delhi Sultanate
- (C) Saluvas Dynasty
- (D) Sangana Dynasty
- (E) Tuluvas Dynasty

Choose the correct answer from the options given below :

- (1) (A), (B), (C), (D), (E)
- (2) (C), (D), (E), (A), (B)
- (3) (B), (D), (C), (A), (E)
- (4) (B), (D), (C), (E), (A)

Options :

212807128529. 1

212807128530. 2

212807128531. 3

212807128532. 4

Question Number : 703 Question Id : 21280732133 Question Type : MCQ Option Shuffling : No Is Question Mandatory : No Calculator : None
Response Time : N.A Think Time : N.A Minimum Instruction Time : 0

Correct Marks : 5 Wrong Marks : 1

Question Key Details :

Key	Value
Comprehension	MCQ

निम्नलिखित को कालक्रमानुसार व्यवस्थित करें :

- (A) अरविन्दु वंश
- (B) दिल्ली सल्तनत
- (C) सुलुव वंश
- (D) संगम वंश
- (E) तुलुव वंश

दिए गए विकल्पों में से सही उत्तर का चयन करें :

- (1) (A), (B), (C), (D), (E)
- (2) (C), (D), (E), (A), (B)
- (3) (B), (D), (C), (A), (E)
- (4) (B), (D), (C), (E), (A)

Options :

- 212807128529. 1
- 212807128530. 2
- 212807128531. 3
- 212807128532. 4

Question Number : 704 Question Id : 21280732134 Question Type : MCQ Option Shuffling : No Is Question Mandatory : No Calculator : None Response Time : N.A Think Time : N.A Minimum Instruction Time : 0

Correct Marks : 5 Wrong Marks : 1

Question Key Details :

Key	Value
Comprehension	MCQ

Identify the terms used in temple architecture of Vijayanagara empire.

- (A) Rayas
- (B) Gopuram
- (C) Mandapas
- (D) The Chariot
- (E) Amara-Nayakas

Choose the correct answer from the options given below :

- (1) (A), (D), (E) Only
- (2) (B), (C), (E) Only
- (3) (C), (D), (E) Only
- (4) (B), (C), (D) Only

Options :

- 212807128533. 1
- 212807128534. 2
- 212807128535. 3
- 212807128536. 4

Question Number : 704 Question Id : 21280732134 Question Type : MCQ Option Shuffling : No Is Question Mandatory : No Calculator : None Response Time : N.A Think Time : N.A Minimum Instruction Time : 0

Correct Marks : 5 Wrong Marks : 1

Question Key Details :

Key	Value
Comprehension	MCQ

विजयनगर साम्राज्य में मंदिर स्थापत्य के लिए प्रयुक्त पद को पहचानें :

- (A) राय
- (B) गोपुरम
- (C) मंडप
- (D) रथ
- (E) अमर - नायक

दिए गए विकल्पों में से सही उत्तर का चयन करें :

- (1) केवल (A), (D), (E)
- (2) केवल (B), (C), (E)
- (3) केवल (C), (D), (E)
- (4) केवल (B), (C), (D)

Options :

- 212807128533. 1
- 212807128534. 2
- 212807128535. 3
- 212807128536. 4

Question Number : 705 Question Id : 21280732135 Question Type : MCQ Option Shuffling : No Is Question Mandatory : No Calculator : None Response Time : N.A Think Time : N.A Minimum Instruction Time : 0

Correct Marks : 5 Wrong Marks : 1

Question Key Details :

Key	Value
Comprehension	MCQ

Match List - I with List - II :

List - I

- (A) Polaj
- (B) Parauti
- (C) Chachar
- (D) Banjar

List - II

- (I) Land lain follow for 3-4 years
- (II) Land uncultivated for 5 years
- (III) Land annually cultivated
- (IV) Land left out of cultivation for time to recover

Choose the correct answer from the options given below :

- (1) (A)-(IV), (B)-(III), (C)-(II), (D)-(I)
- (2) (A)-(I), (B)-(II), (C)-(III), (D)-(IV)
- (3) (A)-(III), (B)-(II), (C)-(IV), (D)-(I)
- (4) (A)-(III), (B)-(IV), (C)-(II), (D)-(I)

Options :

- 212807128537. 1
- 212807128538. 2
- 212807128539. 3
- 212807128540. 4

Question Number : 705 Question Id : 21280732135 Question Type : MCQ Option Shuffling : No Is Question Mandatory : No Calculator : None Response Time : N.A Think Time : N.A Minimum Instruction Time : 0

Correct Marks : 5 Wrong Marks : 1

Question Key Details :

Key	Value
Comprehension	MCQ

सूची - I का सूची - II से मिलान करें :

सूची - I

- (A) पोलाज
- (B) परौती
- (C) छछर
- (D) बंजर

सूची - II

- (I) तीन-चार वर्षों के लिए खाली छोड़ी जाती है
- (II) 5 वर्षों से खेती नहीं की गई हो
- (III) भूमि पर वार्षिक रूप से खेती की जाती है
- (IV) कुछ दिनों के लिए खेती छोड़ दी जाती है ताकि अपनी पुर्नउपजाऊ हो सके

दिए गए विकल्पों में से सही उत्तर का चयन करें :

- (1) (A)-(IV), (B)-(III), (C)-(II), (D)-(I)
- (2) (A)-(I), (B)-(II), (C)-(III), (D)-(IV)
- (3) (A)-(III), (B)-(II), (C)-(IV), (D)-(I)
- (4) (A)-(III), (B)-(IV), (C)-(II), (D)-(I)

Options :

- 212807128537. 1
- 212807128538. 2
- 212807128539. 3
- 212807128540. 4

Question Number : 706 Question Id : 21280732136 Question Type : MCQ Option Shuffling : No Is Question Mandatory : No Calculator : None Response Time : N.A Think Time : N.A Minimum Instruction Time : 0

Correct Marks : 5 Wrong Marks : 1

Question Key Details :

Key	Value
Comprehension	MCQ

Alamgir Nama is a history of the first ten years of which Mughal emperor's reign ?

- (1) Akbar
- (2) Shah Jahan
- (3) Jhangir
- (4) Aurangzeb

Options :

- 212807128541. 1
- 212807128542. 2
- 212807128543. 3
- 212807128544. 4

Question Number : 706 Question Id : 21280732136 Question Type : MCQ Option Shuffling : No Is Question Mandatory : No Calculator : None Response Time : N.A Think Time : N.A Minimum Instruction Time : 0

Correct Marks : 5 Wrong Marks : 1

Question Key Details :

Key	Value
Comprehension	MCQ

आलमगीर नामा किस मुगल शासक के शुरूआती दस वर्षों के शासन का इतिहास है?

- (1) अकबर
- (2) शाहजहाँ
- (3) जहाँगीर
- (4) औरंगजेब

Options :

- 212807128541. 1

212807128542. 2
212807128543. 3
212807128544. 4

Question Number : 707 Question Id : 21280732137 Question Type : MCQ Option Shuffling : No Is Question Mandatory : No Calculator : None
Response Time : N.A Think Time : N.A Minimum Instruction Time : 0

Correct Marks : 5 Wrong Marks : 1

Question Key Details :

Key	Value
Comprehension	MCQ

The bazar of Chandni Chowk at the centre of Shahjahanabad was designed by :

- (1) Roshanara
- (2) Jahanara
- (3) Gulbadan Begum
- (4) Mumtaz Mahal

Options :

212807128545. 1
212807128546. 2
212807128547. 3
212807128548. 4

Question Number : 707 Question Id : 21280732137 Question Type : MCQ Option Shuffling : No Is Question Mandatory : No Calculator : None
Response Time : N.A Think Time : N.A Minimum Instruction Time : 0

Correct Marks : 5 Wrong Marks : 1

Question Key Details :

Key	Value
Comprehension	MCQ

शाहजहाँनाबाद के केंद्र में स्थित चाँदनी चौक के बाज़ार को किसने डिज़ाइन किया ?

- (1) रोशन आरा
- (2) जहाँआरा
- (3) गुलबदन बेगम
- (4) मुमताज़ महल

Options :

212807128545. 1
212807128546. 2
212807128547. 3
212807128548. 4

Question Number : 708 Question Id : 21280732138 Question Type : MCQ Option Shuffling : No Is Question Mandatory : No Calculator : None
Response Time : N.A Think Time : N.A Minimum Instruction Time : 0

Correct Marks : 5 Wrong Marks : 1

Question Key Details :

Key	Value
Comprehension	MCQ

Who composed the Humayun Nama ?

- (1) Muhammad Waris
- (2) Abu'l Fazl
- (3) Humayun
- (4) Gulbadan Begum

Options :

212807128549. 1
212807128550. 2
212807128551. 3

Question Number : 708 Question Id : 21280732138 Question Type : MCQ Option Shuffling : No Is Question Mandatory : No Calculator : None
Response Time : N.A Think Time : N.A Minimum Instruction Time : 0

Correct Marks : 5 Wrong Marks : 1

Question Key Details :

Key	Value
Comprehension	MCQ

हुमाँयूनामा किसके द्वारा रचित है ?

- (1) मुहम्मद वारिस
- (2) अबुल फजल
- (3) हुमाँयू
- (4) गुलबदन बेगम

Options :

212807128549. 1
212807128550. 2
212807128551. 3
212807128552. 4

Question Number : 709 Question Id : 21280732139 Question Type : MCQ Option Shuffling : No Is Question Mandatory : No Calculator : None
Response Time : N.A Think Time : N.A Minimum Instruction Time : 0

Correct Marks : 5 Wrong Marks : 1

Question Key Details :

Key	Value
Comprehension	MCQ

Which British artist, in search of picturesque, went to the Rajmahal Hills ?

- (1) Francis Buchanan
- (2) William Hodges
- (3) David Ricardo
- (4) Thomas Gainsborough

Options :

212807128553. 1
212807128554. 2
212807128555. 3
212807128556. 4

Question Number : 709 Question Id : 21280732139 Question Type : MCQ Option Shuffling : No Is Question Mandatory : No Calculator : None
Response Time : N.A Think Time : N.A Minimum Instruction Time : 0

Correct Marks : 5 Wrong Marks : 1

Question Key Details :

Key	Value
Comprehension	MCQ

किस ब्रिटिश कलाकार ने चित्रोपम दृश्यों के लिए राजमहल की पहाड़ियों का भ्रमण किया ?

- (1) फ्रांसिस बुकानन
- (2) विलियम होजेज
- (3) डेविड रिक्वॉडो
- (4) थॉमस ग्रेन्सबॉग

Options :

212807128553. 1
212807128554. 2
212807128555. 3
212807128556. 4

Question Number : 710 Question Id : 21280732140 Question Type : MCQ Option Shuffling : No Is Question Mandatory : No Calculator : None
Response Time : N.A Think Time : N.A Minimum Instruction Time : 0

Correct Marks : 5 Wrong Marks : 1

Question Key Details :

Key	Value
Comprehension	MCQ

The Ryotwari Settlement was based on the ideas of :

- (1) Thomas Macaulay
- (2) David Ricardo
- (3) Lord Wellesley
- (4) Lord Dalhousie

Options :

- 212807128557. 1
- 212807128558. 2
- 212807128559. 3
- 212807128560. 4

Question Number : 710 Question Id : 21280732140 Question Type : MCQ Option Shuffling : No Is Question Mandatory : No Calculator : None
Response Time : N.A Think Time : N.A Minimum Instruction Time : 0

Correct Marks : 5 Wrong Marks : 1

Question Key Details :

Key	Value
Comprehension	MCQ

रैयतवाडी बंदोबस्त किस विचारधारा पर आधारित था ?

- (1) थॉमस मैकाले
- (2) डेविड रिक्कार्डो
- (3) लॉर्ड वेलेजली
- (4) लॉर्ड डलहौजी

Options :

- 212807128557. 1
- 212807128558. 2
- 212807128559. 3
- 212807128560. 4

Question Number : 711 Question Id : 21280732141 Question Type : MCQ Option Shuffling : No Is Question Mandatory : No Calculator : None
Response Time : N.A Think Time : N.A Minimum Instruction Time : 0

Correct Marks : 5 Wrong Marks : 1

Question Key Details :

Key	Value
Comprehension	MCQ

Which of the following term does NOT refer to the rich ryots ?

- (1) Jotedars
- (2) Mandals
- (3) Haoladars
- (4) Bargadars

Options :

- 212807128561. 1
- 212807128562. 2
- 212807128563. 3
- 212807128564. 4

Question Number : 711 Question Id : 21280732141 Question Type : MCQ Option Shuffling : No Is Question Mandatory : No Calculator : None
Response Time : N.A Think Time : N.A Minimum Instruction Time : 0

Correct Marks : 5 Wrong Marks : 1

Question Key Details :

Key	Value
Comprehension	MCQ

निम्न में से कौन सा पद अमीर रैयतों के लिए प्रमुक्त नहीं होता ?

- (1) जोतदार
- (2) मंडल
- (3) होआलदार
- (4) बर्गादार

Options :

212807128561. 1
212807128562. 2
212807128563. 3
212807128564. 4

Question Number : 712 Question Id : 21280732142 Question Type : MCQ Option Shuffling : No Is Question Mandatory : No Calculator : None
Response Time : N.A Think Time : N.A Minimum Instruction Time : 0

Correct Marks : 5 Wrong Marks : 1

Question Key Details :

Key	Value
Comprehension	MCQ

Which group was symbolised by the 'Hoe' in the Rajmahal hills ?

- (1) Santhals
- (2) Paharias
- (3) Jotedars
- (4) Mandals

Options :

212807128565. 1
212807128566. 2
212807128567. 3
212807128568. 4

Question Number : 712 Question Id : 21280732142 Question Type : MCQ Option Shuffling : No Is Question Mandatory : No Calculator : None
Response Time : N.A Think Time : N.A Minimum Instruction Time : 0

Correct Marks : 5 Wrong Marks : 1

Question Key Details :

Key	Value
Comprehension	MCQ

राजमहल पहाड़ियों से संबंधित किस समूह की ओर 'कुदाल' संकेत करती है ?

- (1) संथाल
- (2) पहाड़ी
- (3) जोतदार
- (4) मण्डल

Options :

212807128565. 1
212807128566. 2
212807128567. 3
212807128568. 4

Question Number : 713 Question Id : 21280732143 Question Type : MCQ Option Shuffling : No Is Question Mandatory : No Calculator : None
Response Time : N.A Think Time : N.A Minimum Instruction Time : 0

Correct Marks : 5 Wrong Marks : 1

Question Key Details :

Key	Value
Comprehension	MCQ

Arrange the following in a chronological order.

- (A) Cotton boom begins.
- (B) First revenue settlement in the Bombay Deccan.
- (C) Permanent settlement in Bengal.
- (D) Ryots in Deccan villages rebel.
- (E) Regulating Act passed by the British Parliament.

Choose the correct answer from the options given below :

- (1) (E), (C), (B), (A), (D)
- (2) (E), (D), (C), (B), (A)
- (3) (B), (A), (C), (E), (D)
- (4) (D), (E), (C), (A), (B)

Options :

- 212807128569. 1
- 212807128570. 2
- 212807128571. 3
- 212807128572. 4

Question Number : 713 Question Id : 21280732143 Question Type : MCQ Option Shuffling : No Is Question Mandatory : No Calculator : None
Response Time : N.A Think Time : N.A Minimum Instruction Time : 0

Correct Marks : 5 Wrong Marks : 1

Question Key Details :

Key	Value
Comprehension	MCQ

निम्नलिखित को क्रमानुसार व्यवस्थित करें :

- (A) कपास में तेजी आई
- (B) बंबई दक्कन में पहला राजस्व बंदोबस्त
- (C) बंगाल में स्थायी बंदोबस्त
- (D) दक्कन के गाँवों में रैयतों का विद्रोह
- (E) ब्रिटिश संसद द्वारा नियंत्रण अधिनियम (रेग्यूलेटिंग एक्ट) पास हुआ

नीचे दिए गए विकल्पों में से सही उत्तर का चयन करें :

- (1) (E), (C), (B), (A), (D)
- (2) (E), (D), (C), (B), (A)
- (3) (B), (A), (C), (E), (D)
- (4) (D), (E), (C), (A), (B)

Options :

- 212807128569. 1
- 212807128570. 2
- 212807128571. 3
- 212807128572. 4

Question Number : 714 Question Id : 21280732144 Question Type : MCQ Option Shuffling : No Is Question Mandatory : No Calculator : None
Response Time : N.A Think Time : N.A Minimum Instruction Time : 0

Correct Marks : 5 Wrong Marks : 1

Question Key Details :

Key	Value
Comprehension	MCQ

Arrange the following in chronological order :

- (A) Cornwallis code
- (B) Asiatic Society
- (C) Transfer of capital from Calcutta to Delhi
- (D) Railways from Bombay to Thane
- (E) Universities in Bombay, Calcutta and Madras

Choose the correct answer from the options given below :

- (1) (A), (B), (D), (C), (E)
- (2) (B), (A), (D), (E), (C)
- (3) (A), (B), (C), (D), (E)
- (4) (A), (B), (E), (C), (D)

Options :

- 212807128573. 1
- 212807128574. 2
- 212807128575. 3
- 212807128576. 4

Question Number : 714 Question Id : 21280732144 Question Type : MCQ Option Shuffling : No Is Question Mandatory : No Calculator : None Response Time : N.A Think Time : N.A Minimum Instruction Time : 0

Correct Marks : 5 Wrong Marks : 1

Question Key Details :

Key	Value
Comprehension	MCQ

निम्नलिखित को कालाक्रमानुसार व्यवस्थित करें :

- (A) कार्नवालिस संहिता
- (B) एशियाटिक सोसाइटी
- (C) राजधानी का कलकत्ता से दिल्ली स्थानांतरण
- (D) बंबई से थाने तक रेलवे
- (E) बंबई, कलकत्ता और मद्रास में विश्वविद्यालय

नीचे दिए गए विकल्पों में से सही उत्तर का चयन करें :

- (1) (A), (B), (D), (C), (E)
- (2) (B), (A), (D), (E), (C)
- (3) (A), (B), (C), (D), (E)
- (4) (A), (B), (E), (C), (D)

Options :

- 212807128573. 1
- 212807128574. 2
- 212807128575. 3
- 212807128576. 4

Question Number : 715 Question Id : 21280732145 Question Type : MCQ Option Shuffling : No Is Question Mandatory : No Calculator : None Response Time : N.A Think Time : N.A Minimum Instruction Time : 0

Correct Marks : 5 Wrong Marks : 1

Question Key Details :

Key	Value
Comprehension	MCQ

Mahatma Gandhi opposed separate electorates against which community at the Round Table Conference ?

- (1) Depressed Classes
- (2) Muslims
- (3) Sikhs
- (4) Christians

Options :

212807128577. 1
212807128578. 2
212807128579. 3
212807128580. 4

Question Number : 715 Question Id : 21280732145 Question Type : MCQ Option Shuffling : No Is Question Mandatory : No Calculator : None Response Time : N.A Think Time : N.A Minimum Instruction Time : 0

Correct Marks : 5 Wrong Marks : 1

Question Key Details :

Key	Value
Comprehension	MCQ

महात्मा गाँधी ने गोलमेज सम्मेलन में किस समुदाय के पृथक निर्वाचिका का विरोध किया ?

- (1) उत्पीड़ित वर्ग
- (2) मुस्लिम
- (3) सिक्ख
- (4) ईसाई

Options :

212807128577. 1
212807128578. 2
212807128579. 3
212807128580. 4

Question Number : 716 Question Id : 21280732146 Question Type : MCQ Option Shuffling : No Is Question Mandatory : No Calculator : None Response Time : N.A Think Time : N.A Minimum Instruction Time : 0

Correct Marks : 5 Wrong Marks : 1

Question Key Details :

Key	Value
Comprehension	MCQ

Mahatma Gandhi had given advance notice of his 'Salt March' to the viceroy :

- (1) Lord Wellesley
- (2) Lord Mountbatten
- (3) Lord Irwin
- (4) Lord Cornwallis

Options :

212807128581. 1
212807128582. 2
212807128583. 3
212807128584. 4

Question Number : 716 Question Id : 21280732146 Question Type : MCQ Option Shuffling : No Is Question Mandatory : No Calculator : None Response Time : N.A Think Time : N.A Minimum Instruction Time : 0

Correct Marks : 5 Wrong Marks : 1

Question Key Details :

Key	Value
-----	-------

महात्मा गाँधी ने अपनी 'नमक यात्रा' की पूर्व सूचना इन वायसराय को दी :

- (1) लार्ड वेलेजली
- (2) लार्ड माउंटबेटन
- (3) लार्ड इर्विन
- (4) लार्ड कार्नवालिस

Options :

212807128581. 1
212807128582. 2
212807128583. 3
212807128584. 4

Question Number : 717 Question Id : 21280732147 Question Type : MCQ Option Shuffling : No Is Question Mandatory : No Calculator : None
Response Time : N.A Think Time : N.A Minimum Instruction Time : 0

Correct Marks : 5 Wrong Marks : 1

Question Key Details :

Key	Value
Comprehension	MCQ

Which party did NOT challenge the claim of Mahatma Gandhi that the Indian National Congress represented all of India at the Round Table Conference ?

- (1) The Muslim League
- (2) The Princess
- (3) B.R. Ambedkar
- (4) Hindu Mahasabha

Options :

212807128585. 1
212807128586. 2
212807128587. 3
212807128588. 4

Question Number : 717 Question Id : 21280732147 Question Type : MCQ Option Shuffling : No Is Question Mandatory : No Calculator : None
Response Time : N.A Think Time : N.A Minimum Instruction Time : 0

Correct Marks : 5 Wrong Marks : 1

Question Key Details :

Key	Value
Comprehension	MCQ

इनमें से किस पार्टी ने महात्मा गाँधी द्वारा इस दावे विरोध नहीं किया कि भारतीय राष्ट्रीय कांग्रेस गोलमेज सम्मेलन में पूरे भारत का प्रतिनिधित्व करती है?

- (1) मुस्लिम लीग
- (2) महारानी
- (3) बी.आर. अम्बेडकर
- (4) हिंदू महासभा

Options :

212807128585. 1
212807128586. 2
212807128587. 3
212807128588. 4

Question Number : 718 Question Id : 21280732148 Question Type : MCQ Option Shuffling : No Is Question Mandatory : No Calculator : None
Response Time : N.A Think Time : N.A Minimum Instruction Time : 0

Correct Marks : 5 Wrong Marks : 1

Question Key Details :

Key	Value
Comprehension	MCQ

A series of 'Praja Mandals' were established to promote the nationalist creed among :

- (1) Nation-states
- (2) Princely States
- (3) Social Groups
- (4) Industrialists

Options :

212807128589. 1
212807128590. 2
212807128591. 3
212807128592. 4

Question Number : 718 Question Id : 21280732148 Question Type : MCQ Option Shuffling : No Is Question Mandatory : No Calculator : None Response Time : N.A Think Time : N.A Minimum Instruction Time : 0

Correct Marks : 5 Wrong Marks : 1

Question Key Details :

Key	Value
Comprehension	MCQ

प्रजा मण्डल की शृंखलाओं किनमें राष्ट्रवादी पंथ को प्रोत्साहित किया ?

- (1) राष्ट्र-राज्यों
- (2) रियासतों
- (3) सामाजिक समूह
- (4) उद्योगपति

Options :

212807128589. 1
212807128590. 2
212807128591. 3
212807128592. 4

Question Number : 719 Question Id : 21280732149 Question Type : MCQ Option Shuffling : No Is Question Mandatory : No Calculator : None Response Time : N.A Think Time : N.A Minimum Instruction Time : 0

Correct Marks : 5 Wrong Marks : 1

Question Key Details :

Key	Value
Comprehension	MCQ

Who among the following were lawyers of Gujarati extraction trained in London ?

- (A) Bal Gangadhar Tilak
- (B) Mohandas Karamchand Gandhi
- (C) Bipin Chandra Pal
- (D) Mohammad Ali Jinnah
- (E) Lala Lajpat Rai

Choose the correct answer from the options given below :

- (1) (A), (C) Only
- (2) (B), (D) Only
- (3) (C), (E) Only
- (4) (D), (A) Only

Options :

212807128593. 1

212807128594. 2
212807128595. 3
212807128596. 4

Question Number : 719 Question Id : 21280732149 Question Type : MCQ Option Shuffling : No Is Question Mandatory : No Calculator : None
Response Time : N.A Think Time : N.A Minimum Instruction Time : 0

Correct Marks : 5 Wrong Marks : 1

Question Key Details :

Key	Value
Comprehension	MCQ

इनमें से कौन से गुजराती मूल के वकील लंदन में प्रशिक्षित हुए थे ?

- (A) बाल गंगाधर तिलक
- (B) मोहन दास करम चंद्र गाँधी
- (C) बिपिन चंद्र पाल
- (D) मुहम्मद अली जिन्ना
- (E) लाला लाजपत राय

नीचे दिए गए विकल्पों में से सही उत्तर का चयन करें :

- (1) केवल (A), (C)
- (2) केवल (B), (D)
- (3) केवल (C), (E)
- (4) केवल (D), (A)

Options :

212807128593. 1
212807128594. 2
212807128595. 3
212807128596. 4

Question Number : 720 Question Id : 21280732150 Question Type : MCQ Option Shuffling : No Is Question Mandatory : No Calculator : None
Response Time : N.A Think Time : N.A Minimum Instruction Time : 0

Correct Marks : 5 Wrong Marks : 1

Question Key Details :

Key	Value
Comprehension	MCQ

Who composed "Sare Jahan Se Achha Hindustan Hamara" ?

- (1) Rabindranath Tagore
- (2) Bankim Chandra Chatterjee
- (3) Mohammad Iqbal
- (4) Anand Mohan Bose

Options :

212807128597. 1
212807128598. 2
212807128599. 3
212807128600. 4

Question Number : 720 Question Id : 21280732150 Question Type : MCQ Option Shuffling : No Is Question Mandatory : No Calculator : None
Response Time : N.A Think Time : N.A Minimum Instruction Time : 0

Correct Marks : 5 Wrong Marks : 1

Question Key Details :

Key	Value
Comprehension	MCQ

“सारे जहाँ से अच्छा हिंदोस्ता हमारा” किसने लिखा ?

- (1) रबीन्द्रनाथ टैगोर
- (2) बंकिम चंद्र चटर्जी
- (3) मुहम्मद इकबाल
- (4) आनंद मोहन बोस

Options :

212807128597. 1
212807128598. 2
212807128599. 3
212807128600. 4

Question Number : 721 Question Id : 21280732151 Question Type : MCQ Option Shuffling : No Is Question Mandatory : No Calculator : None
Response Time : N.A Think Time : N.A Minimum Instruction Time : 0

Correct Marks : 5 Wrong Marks : 1

Question Key Details :

Key	Value
Comprehension	MCQ

Who was the Chairman of the Drafting Committee of the Constitution of India ?

- (1) Jawaharlal Nehru
- (2) Rajendra Prasad
- (3) B.R. Ambedkar
- (4) Vallabhbhai Patel

Options :

212807128601. 1
212807128602. 2
212807128603. 3
212807128604. 4

Question Number : 721 Question Id : 21280732151 Question Type : MCQ Option Shuffling : No Is Question Mandatory : No Calculator : None
Response Time : N.A Think Time : N.A Minimum Instruction Time : 0

Correct Marks : 5 Wrong Marks : 1

Question Key Details :

Key	Value
Comprehension	MCQ

भारत के संविधान की प्रारूप समिति के अध्यक्ष कौन थे ?

- (1) जवाहर लाल नेहरू
- (2) राजेन्द्र प्रसाद
- (3) बी.आर. अम्बेडकर
- (4) वल्लभभाई पटेल

Options :

212807128601. 1
212807128602. 2
212807128603. 3
212807128604. 4

Question Number : 722 Question Id : 21280732152 Question Type : MCQ Option Shuffling : No Is Question Mandatory : No Calculator : None
Response Time : N.A Think Time : N.A Minimum Instruction Time : 0

Correct Marks : 5 Wrong Marks : 1

Question Key Details :

Key	Value
Comprehension	MCQ

The members of the Constituent Assembly were elected on the basis of which among the following process ?

- (1) Universal franchise
- (2) President Nomination
- (3) Provincial Elections
- (4) Prime Ministers office

Options :

212807128605. 1
212807128606. 2
212807128607. 3
212807128608. 4

Question Number : 722 Question Id : 21280732152 Question Type : MCQ Option Shuffling : No Is Question Mandatory : No Calculator : None
Response Time : N.A Think Time : N.A Minimum Instruction Time : 0

Correct Marks : 5 Wrong Marks : 1

Question Key Details :

Key	Value
Comprehension	MCQ

संविधान सभा के सदस्यों का चुनाव इनमें से किस विधि से हुआ था ?

- (1) सार्वभौमिक मताधिकार
- (2) अध्यक्ष द्वारा नामांकित
- (3) प्रांतीय चुनाव
- (4) प्रधानमंत्री ऑफिस

Options :

212807128605. 1
212807128606. 2
212807128607. 3
212807128608. 4

Question Number : 723 Question Id : 21280732153 Question Type : MCQ Option Shuffling : No Is Question Mandatory : No Calculator : None
Response Time : N.A Think Time : N.A Minimum Instruction Time : 0

Correct Marks : 5 Wrong Marks : 1

Question Key Details :

Key	Value
Comprehension	MCQ

In which year did the Royal Indian Navy Mutiny began in Bombay ?

- (1) 1944
- (2) 1945
- (3) 1946
- (4) 1950

Options :

212807128609. 1
212807128610. 2
212807128611. 3
212807128612. 4

Question Number : 723 Question Id : 21280732153 Question Type : MCQ Option Shuffling : No Is Question Mandatory : No Calculator : None
Response Time : N.A Think Time : N.A Minimum Instruction Time : 0

Correct Marks : 5 Wrong Marks : 1

Question Key Details :

Key	Value
Comprehension	MCQ

किस वर्ष में बंबई में राजकीय भारतीय जलसेना विद्रोह हुआ ?

- (1) 1944
- (2) 1945
- (3) 1946
- (4) 1950

Options :

212807128609. 1
212807128610. 2
212807128611. 3
212807128612. 4

Question Number : 724 Question Id : 21280732154 Question Type : MCQ Option Shuffling : No Is Question Mandatory : No Calculator : None
Response Time : N.A Think Time : N.A Minimum Instruction Time : 0

Correct Marks : 5 Wrong Marks : 1

Question Key Details :

Key	Value
Comprehension	MCQ

Who moved the "Objectives Resolution" in the Constituent Assembly ?

- (1) Jawaharlal Nehru
- (2) Vallabhbhai Patel
- (3) Rajendra Prasad
- (4) B.R. Ambedkar

Options :

212807128613. 1
212807128614. 2
212807128615. 3
212807128616. 4

Question Number : 724 Question Id : 21280732154 Question Type : MCQ Option Shuffling : No Is Question Mandatory : No Calculator : None
Response Time : N.A Think Time : N.A Minimum Instruction Time : 0

Correct Marks : 5 Wrong Marks : 1

Question Key Details :

Key	Value
Comprehension	MCQ

संविधान सभा में किसने "उद्देश्य प्रस्ताव" पेश किया ?

- (1) जवाहरलाल नेहरू
- (2) वल्लभ भाई पटेल
- (3) राजेन्द्र प्रसाद
- (4) बी.आर. अम्बेडकर

Options :

212807128613. 1
212807128614. 2
212807128615. 3
212807128616. 4

Question Number : 725 Question Id : 21280732155 Question Type : MCQ Option Shuffling : No Is Question Mandatory : No Calculator : None
Response Time : N.A Think Time : N.A Minimum Instruction Time : 0

Correct Marks : 5 Wrong Marks : 1

Question Key Details :

Key	Value
Comprehension	MCQ

Match List - I with List - II :

List - I	List - II
(A) General Elections in India	(I) 1946
(B) Constitution is signed	(II) 1949
(C) India's Independence	(III) 1947
(D) Constituent Assembly regions	(IV) 1945

Choose the correct answer from the options given below :

- (1) (A)-(I), (B)-(II), (C)-(III), (D)-(IV)
- (2) (A)-(IV), (B)-(II), (C)-(III), (D)-(I)
- (3) (A)-(II), (B)-(I), (C)-(III), (D)-(IV)
- (4) (A)-(III), (B)-(II), (C)-(IV), (D)-(I)

Options :

212807128617. 1
212807128618. 2
212807128619. 3
212807128620. 4

Question Number : 725 Question Id : 21280732155 Question Type : MCQ Option Shuffling : No Is Question Mandatory : No Calculator : None
Response Time : N.A Think Time : N.A Minimum Instruction Time : 0

Correct Marks : 5 Wrong Marks : 1

Question Key Details :

Key	Value
Comprehension	MCQ

सूची - I का सूची - II से मिलान करें :

सूची - I	सूची - II
(A) भारत में सामान्य चुनाव	(I) 1946
(B) संविधान पर हस्ताक्षर	(II) 1949
(C) भारत की स्वतंत्रता	(III) 1947
(D) संविधान सभा का इस्तीफा	(IV) 1945

नीचे दिए गए विकल्पों में से सही उत्तर का चयन करें :

- (1) (A)-(I), (B)-(II), (C)-(III), (D)-(IV)
- (2) (A)-(IV), (B)-(II), (C)-(III), (D)-(I)
- (3) (A)-(II), (B)-(I), (C)-(III), (D)-(IV)
- (4) (A)-(III), (B)-(II), (C)-(IV), (D)-(I)

Options :

212807128617. 1
212807128618. 2
212807128619. 3
212807128620. 4

Sub-Section Number :	2
Sub-Section Id :	2128072528
Question Shuffling Allowed :	No
Is Section Default? :	null

Question Number : 726 Question Id : 21280732156 Question Type : MCQ Option Shuffling : No Is Question Mandatory : No Calculator : None
Response Time : N.A Think Time : N.A Minimum Instruction Time : 0

Correct Marks : 5 Wrong Marks : 1

Question Key Details :

Key	Value
Comprehension	Compl

Read the passage and answer the question :

“Perhaps the most unique features of the Harappan civilisation was the development of urban centres. They had citadel and the lower towns. One of the most distinctive features of Harappan cities was the carefully planned drainage system. The roads intersected at right angles and were well planned.”

Who was the Director General of the Archaeological Survey of India in 1875 ?

- (1) Ernest Mackey
- (2) Alexander Cunningham
- (3) John Marshall
- (4) R.E.M. Wheeler

Options :

212807128621. 1
212807128622. 2
212807128623. 3
212807128624. 4

Question Number : 726 Question Id : 21280732156 Question Type : MCQ Option Shuffling : No Is Question Mandatory : No Calculator : None
Response Time : N.A Think Time : N.A Minimum Instruction Time : 0

Correct Marks : 5 Wrong Marks : 1

Question Key Details :

Key	Value
Comprehension	Compl

गद्यांश को ध्यानपूर्वक पढ़िए और निम्न प्रश्न का उत्तर दीजिए :

संभवतः हड़प्पा सभ्यता का सबसे अनूठा पहलू शहरी केंद्रों का विकास था। इनके पास दुर्ग और निचला शहर था। हड़प्पा शहरों की सबसे अनूठी विशिष्टताओं में से एक ध्यानपूर्वक नियोजित जल निकास प्रणाली थी। सड़के एक दूसरे को समकोण पर काटती थी और सुनियोजित बनाई गई थी।

1875 में भारतीय पुरातत्व सर्वेक्षण के डायरेक्टर जनरल कौन थे?

- (1) एरनेस्ट मैके
- (2) अलेक्जेंडर कनिंघम
- (3) जॉन मार्शल
- (4) आर.ई.एम.व्हीलर

Options :

212807128621. 1
212807128622. 2
212807128623. 3
212807128624. 4

Question Number : 727 Question Id : 21280732157 Question Type : MCQ Option Shuffling : No Is Question Mandatory : No Calculator : None
Response Time : N.A Think Time : N.A Minimum Instruction Time : 0

Correct Marks : 5 Wrong Marks : 1

Question Key Details :

Key	Value
Comprehension	Compl

Read the passage and answer the question :

“Perhaps the most unique features of the Harappan civilisation was the development of urban centres. They had citadel and the lower towns. One of the most distinctive features of Harappan cities was the carefully planned drainage system. The roads intersected at right angles and were well planned.”

At which of the following site, the entire settlement was fortified, with town sections separated by walls ?

- (1) Harappa
- (2) Mohenjodaro
- (3) Kalibangan
- (4) Dholavira

Options :

212807128625. 1
212807128626. 2
212807128627. 3
212807128628. 4

Question Number : 727 Question Id : 21280732157 Question Type : MCQ Option Shuffling : No Is Question Mandatory : No Calculator : None Response Time : N.A Think Time : N.A Minimum Instruction Time : 0

Correct Marks : 5 Wrong Marks : 1

Question Key Details :

Key	Value
Comprehension	Compl

गद्यांश को ध्यानपूर्वक पढ़िए और निम्न प्रश्न का उत्तर दीजिए :

संभवतः हड़प्पा सभ्यता का सबसे अनूठा पहलू शहरी केंद्रों का विकास था। इनके पास दुर्ग और निचला शहर था। हड़प्पा शहरों की सबसे अनूठी विशिष्टताओं में से एक ध्यानपूर्वक नियोजित जल निकास प्रणाली थी। सड़के एक दूसरे को समकोण पर काटती थी और सुनियोजित बनाई गई थी।

इनमें से किस स्थल पर, सारे क्षेत्रों को दुर्ग से घेरा गया था शहरी भागों को दीवारों से अलग किया गया था ?

- (1) हड़प्पा
- (2) मोहनजोदड़ो
- (3) कालीबंगा
- (4) धौलावीरा

Options :

212807128625. 1
212807128626. 2
212807128627. 3
212807128628. 4

Question Number : 728 Question Id : 21280732158 Question Type : MCQ Option Shuffling : No Is Question Mandatory : No Calculator : None Response Time : N.A Think Time : N.A Minimum Instruction Time : 0

Correct Marks : 5 Wrong Marks : 1

Question Key Details :

Key	Value
Comprehension	Compl

Read the passage and answer the question :

“Perhaps the most unique features of the Harappan civilisation was the development of urban centres. They had citadel and the lower towns. One of the most distinctive features of Harappan cities was the carefully planned drainage system. The roads intersected at right angles and were well planned.”

Identify the ‘pattern’ in which the roads and streets were planned during Harappan civilisation.

- (1) Circular pattern
- (2) Straight pattern
- (3) Grid pattern
- (4) Square pattern

Options :

212807128629. 1
212807128630. 2
212807128631. 3
212807128632. 4

Question Number : 728 Question Id : 21280732158 Question Type : MCQ Option Shuffling : No Is Question Mandatory : No Calculator : None Response Time : N.A Think Time : N.A Minimum Instruction Time : 0

Correct Marks : 5 Wrong Marks : 1

Question Key Details :

Key	Value
Comprehension	Comp1

गद्यांश को ध्यानपूर्वक पढ़िए और निम्न प्रश्न का उत्तर दीजिए :

संभवतः हड़प्पा सभ्यता का सबसे अनूठा पहलू शहरी केंद्रों का विकास था। इनके पास दुर्ग और निचला शहर था। हड़प्पा शहरों की सबसे अनूठी विशिष्टताओं में से एक ध्यानपूर्वक नियोजित जल निकास प्रणाली थी। सड़के एक दूसरे को समकोण पर काटती थी और सुनियोजित बनाई गई थी।

उस पद्धति की पहचान करें जिस से हड़प्पा सभ्यता में सड़कों और गलियों की योजना की गई थी।

- (1) गोलाकार पद्धति
- (2) सीधी पद्धति
- (3) ग्रिड पद्धति
- (4) चौकोट पद्धति

Options :

212807128629. 1
212807128630. 2
212807128631. 3
212807128632. 4

Question Number : 729 Question Id : 21280732159 Question Type : MCQ Option Shuffling : No Is Question Mandatory : No Calculator : None Response Time : N.A Think Time : N.A Minimum Instruction Time : 0

Correct Marks : 5 Wrong Marks : 1

Question Key Details :

Key	Value
Comprehension	Comp1

Read the passage and answer the question :

“Perhaps the most unique features of the Harappan civilisation was the development of urban centres. They had citadel and the lower towns. One of the most distinctive features of Harappan cities was the carefully planned drainage system. The roads intersected at right angles and were well planned.”

Which among the following structure has been discovered in Mohenjodaro ?

- (1) Dockyards
- (2) The Great Bath
- (3) Ploughed fields
- (4) Canals

Options :

212807128633. 1
212807128634. 2
212807128635. 3
212807128636. 4

Question Number : 729 Question Id : 21280732159 Question Type : MCQ Option Shuffling : No Is Question Mandatory : No Calculator : None Response Time : N.A Think Time : N.A Minimum Instruction Time : 0

Correct Marks : 5 Wrong Marks : 1

Question Key Details :

Key	Value
Comprehension	Comp1

गद्यांश को ध्यानपूर्वक पढ़िए और निम्न प्रश्न का उत्तर दीजिए :

संभवतः हड़प्पा सभ्यता का सबसे अनूठा पहलू शहरी केंद्रों का विकास था। इनके पास दुर्ग और निचला शहर था। हड़प्पा शहरों की सबसे अनूठी विशिष्टताओं में से एक ध्यानपूर्वक नियोजित जल निकास प्रणाली थी। सड़के एक दूसरे को समकोण पर काटती थी और सुनियोजित बनाई गई थी।

इनमें से कौन सी संरचना मोहनजोदाड़ो में खोजी गई ?

- (1) बंदरगाह
- (2) विशाल स्नानागार
- (3) जुते हुए खेत
- (4) नहरें

Options :

212807128633. 1
212807128634. 2
212807128635. 3
212807128636. 4

Question Number : 730 Question Id : 21280732160 Question Type : MCQ Option Shuffling : No Is Question Mandatory : No Calculator : None Response Time : N.A Think Time : N.A Minimum Instruction Time : 0

Correct Marks : 5 Wrong Marks : 1

Question Key Details :

Key	Value
Comprehension	Comp1

Read the passage and answer the question :

“Perhaps the most unique features of the Harappan civilisation was the development of urban centres. They had citadel and the lower towns. One of the most distinctive features of Harappan cities was the carefully planned drainage system. The roads intersected at right angles and were well planned.”

In which century did the archaeological excavations begin at Harappa ?

- (1) Eighteenth Century
- (2) Nineteenth Century
- (3) Twentieth Century
- (4) Twenty-first Century

Options :

212807128637. 1
212807128638. 2
212807128639. 3
212807128640. 4

Question Number : 730 Question Id : 21280732160 Question Type : MCQ Option Shuffling : No Is Question Mandatory : No Calculator : None Response Time : N.A Think Time : N.A Minimum Instruction Time : 0

Correct Marks : 5 Wrong Marks : 1

Question Key Details :

Key	Value
Comprehension	Comp1

गद्यांश को ध्यानपूर्वक पढ़िए और निम्न प्रश्न का उत्तर दीजिए :

संभवतः हड़प्पा सभ्यता का सबसे अनूठा पहलू शहरी केंद्रों का विकास था। इनके पास दुर्ग और निचला शहर था। हड़प्पा शहरों की सबसे अनूठी विशिष्टताओं में से एक ध्यानपूर्वक नियोजित जल निकास प्रणाली थी। सड़के एक दूसरे को समकोण पर काटती थीं और सुनियोजित बनाई गई थीं।

किस शताब्दी में हड़प्पा में पुरातात्विक खुदाई की गई ?

- (1) 18वीं शताब्दी
- (2) 19वीं शताब्दी
- (3) 20वीं शताब्दी
- (4) 21वीं शताब्दी

Options :

212807128637. 1
212807128638. 2
212807128639. 3
212807128640. 4

Sub-Section Number : 3
Sub-Section Id : 2128072529
Question Shuffling Allowed : No
Is Section Default? : null

Question Number : 731 Question Id : 21280732161 Question Type : MCQ Option Shuffling : No Is Question Mandatory : No Calculator : None Response Time : N.A Think Time : N.A Minimum Instruction Time : 0

Correct Marks : 5 Wrong Marks : 1

Question Key Details :

Key	Value
Comprehension	Comp2

Read the passage and answer the question :

“The sepoys began their action with a signal : firing of the evening gun or sounding of the bugle. They attacked Government buildings. Everything and everybody connected with white man became a target. The British had no answer to the actions of the rebels. British rule, as one British officer noted “collapsed like a house made of cards”.”

On 10 May 1857, the sepoys in the cantonment of _____ broke into Mutiny.

- (1) Awadh
- (2) Meerut
- (3) Delhi
- (4) Kanpur

Options :

212807128641. 1
212807128642. 2
212807128643. 3
212807128644. 4

Question Number : 731 Question Id : 21280732161 Question Type : MCQ Option Shuffling : No Is Question Mandatory : No Calculator : None Response Time : N.A Think Time : N.A Minimum Instruction Time : 0

Correct Marks : 5 Wrong Marks : 1

Question Key Details :

Key	Value
Comprehension	Comp2

गद्यांश को ध्यानपूर्वक पढ़िए और निम्न प्रश्न का उत्तर दीजिए :

“सिपाहियों ने किसी न किसी विशेष संकेत के साथ अपनी कार्यवाही शुरू की। कई जगह शाम के समय तोप का गोला दागा गया तो कहीं बिगुल बजाकर विद्रोह का संकेत दिया गया। उन्होंने सरकारी भवनों पर हमला कर दिया। गोरों से संबंधित हर चीज और हर शख्स हमले का निशाना था। जैसाकि एक ब्रिटिश अफसर ने लिखा ब्रिटिश शासन “ताश के किले की तरह बिखर गया।”

10 मई 1857 को, _____ छावनी के सैनिकों ने विद्रोह में बदल दिया।

- (1) अवध
- (2) मेरठ
- (3) दिल्ली
- (4) कानपुर

Options :

212807128641. 1
212807128642. 2
212807128643. 3
212807128644. 4

Question Number : 732 Question Id : 21280732162 Question Type : MCQ Option Shuffling : No Is Question Mandatory : No Calculator : None Response Time : N.A Think Time : N.A Minimum Instruction Time : 0

Correct Marks : 5 Wrong Marks : 1

Question Key Details :

Key	Value
Comprehension	Comp2

Read the passage and answer the question :

“The sepoys began their action with a signal : firing of the evening gun or sounding of the bugle. They attacked Government buildings. Everything and everybody connected with white man became a target. The British had no answer to the actions of the rebels. British rule, as one British officer noted “collapsed like a house made of cards”.”

Who wrote earliest histories of the uprising and noted regular occurrence of nightly Panchayats in Kanpur sepoy lines :

- (1) Charles Ball
- (2) Captain Harsey
- (3) Francois Sisten
- (4) Campbell

Options :

212807128645. 1
212807128646. 2
212807128647. 3
212807128648. 4

Question Number : 732 Question Id : 21280732162 Question Type : MCQ Option Shuffling : No Is Question Mandatory : No Calculator : None Response Time : N.A Think Time : N.A Minimum Instruction Time : 0

Correct Marks : 5 Wrong Marks : 1

Question Key Details :

Key	Value
Comprehension	Comp2

गद्यांश को ध्यानपूर्वक पढ़िए और निम्न प्रश्न का उत्तर दीजिए :

“सिपाहियों ने किसी न किसी विशेष संकेत के साथ अपनी कार्यवाही शुरू की। कई जगह शाम के समय तोप का गोला दागा गया तो कहीं बिगुल बजाकर विद्रोह का संकेत दिया गया। उन्होंने सरकारी भवनों पर हमला कर दिया। गोरों से संबंधित हर चीज और हर शख्स हमले का निशाना था। जैसाकि एक ब्रिटिश अफसर ने लिखा ब्रिटिश शासन “ताश के किले की तरह बिखर गया।”

किसने कानपुर सिपाही लाईनों में रात की पंचायतो के जुटने के शुरूआती इतिहास को दर्ज किया ?

- (1) चार्ल्स बॉल
- (2) कैप्टन हर्से
- (3) फ्रांसिस सिस्टेन
- (4) कैंपबेल

Options :

212807128645. 1
212807128646. 2
212807128647. 3
212807128648. 4

Question Number : 733 Question Id : 21280732163 Question Type : MCQ Option Shuffling : No Is Question Mandatory : No Calculator : None Response Time : N.A Think Time : N.A Minimum Instruction Time : 0

Correct Marks : 5 Wrong Marks : 1

Question Key Details :

Key	Value
Comprehension	Comp2

Read the passage and answer the question :

“The sepoys began their action with a signal : firing of the evening gun or sounding of the bugle. They attacked Government buildings. Everything and everybody connected with white man became a target. The British had no answer to the actions of the rebels. British rule, as one British officer noted “collapsed like a house made of cards”.”

Who assumed the leadership of the Revolt in Kanpur ?

- (1) Peshwa Baji Rao II
- (2) Birjis Qadr
- (3) Nana Sahib
- (4) Kunwar Singh

Options :

212807128649. 1
212807128650. 2
212807128651. 3
212807128652. 4

Question Number : 733 Question Id : 21280732163 Question Type : MCQ Option Shuffling : No Is Question Mandatory : No Calculator : None Response Time : N.A Think Time : N.A Minimum Instruction Time : 0

Correct Marks : 5 Wrong Marks : 1

Question Key Details :

Key	Value
Comprehension	Comp2

गद्यांश को ध्यानपूर्वक पढ़िए और निम्न प्रश्न का उत्तर दीजिए :

“सिपाहियों ने किसी न किसी विशेष संकेत के साथ अपनी कार्यवाही शुरू की। कई जगह शाम के समय तोप का गोला दागा गया तो कहीं बिगुल बजाकर विद्रोह का संकेत दिया गया। उन्होंने सरकारी भवनों पर हमला कर दिया। गोरों से संबंधित हर चीज और हर शख्स हमले का निशाना था। जैसाकि एक ब्रिटिश अफसर ने लिखा ब्रिटिश शासन “ताश के किले की तरह बिखर गया।”

कानपुर में विद्रोह का नेता किसे माना गया?

- (1) पेशवा बाजी राव II
- (2) बिरजिस कद्र
- (3) नाना साहिब
- (4) कुँवर सिंह

Options :

212807128649. 1
212807128650. 2
212807128651. 3
212807128652. 4

Question Number : 734 Question Id : 21280732164 Question Type : MCQ Option Shuffling : No Is Question Mandatory : No Calculator : None Response Time : N.A Think Time : N.A Minimum Instruction Time : 0

Correct Marks : 5 Wrong Marks : 1

Question Key Details :

Key	Value
Comprehension	Comp2

Read the passage and answer the question :

“The sepoys began their action with a signal : firing of the evening gun or sounding of the bugle. They attacked Government buildings. Everything and everybody connected with white man became a target. The British had no answer to the actions of the rebels. British rule, as one British officer noted “collapsed like a house made of cards”.”

Identify the Jat cultivator from Uttar Pradesh who led mobilisation in the Revolt of 1857.

- (1) Danka Shah
- (2) Shah Mal
- (3) Gonoo
- (4) Ahmadullah Shah

Options :

212807128653. 1
212807128654. 2
212807128655. 3
212807128656. 4

Question Number : 734 Question Id : 21280732164 Question Type : MCQ Option Shuffling : No Is Question Mandatory : No Calculator : None Response Time : N.A Think Time : N.A Minimum Instruction Time : 0

Correct Marks : 5 Wrong Marks : 1

Question Key Details :

Key	Value
Comprehension	Comp2

गद्यांश को ध्यानपूर्वक पढ़िए और निम्न प्रश्न का उत्तर दीजिए :

“सिपाहियों ने किसी न किसी विशेष संकेत के साथ अपनी कार्यवाही शुरू की। कई जगह शाम के समय तोप का गोला दागा गया तो कहीं बिगुल बजाकर विद्रोह का संकेत दिया गया। उन्होंने सरकारी भवनों पर हमला कर दिया। गोरों से संबंधित हर चीज और हर शख्स हमले का निशाना था। जैसाकि एक ब्रिटिश अफसर ने लिखा ब्रिटिश शासन “ताश के किले की तरह बिखर गया।”

1857 के विद्रोह में उस जाट किसान की पहचान करें जिन्होंने उत्तर प्रदेश के किसानों को एकत्र किया?

- (1) डंका शाह
- (2) शाह मल
- (3) गुनू
- (4) अहमदुल्लाह शाह

Options :

212807128653. 1
212807128654. 2
212807128655. 3
212807128656. 4

Question Number : 735 Question Id : 21280732165 Question Type : MCQ Option Shuffling : No Is Question Mandatory : No Calculator : None Response Time : N.A Think Time : N.A Minimum Instruction Time : 0

Correct Marks : 5 Wrong Marks : 1

Question Key Details :

Key	Value
Comprehension	Comp2

Read the passage and answer the question :

“The sepoys began their action with a signal : firing of the evening gun or sounding of the bugle. They attacked Government buildings. Everything and everybody connected with white man became a target. The British had no answer to the actions of the rebels. British rule, as one British officer noted “collapsed like a house made of cards”.”

Who fought in ‘Battle of Chinhat’, in which the British forces were defeated ?

- (1) Nana Sahib
- (2) Kunwar Singh
- (3) Mauli Ahmadullah Shah
- (4) Raja Shah Mal

Options :

212807128657. 1
212807128658. 2
212807128659. 3
212807128660. 4

Question Number : 735 Question Id : 21280732165 Question Type : MCQ Option Shuffling : No Is Question Mandatory : No Calculator : None
Response Time : N.A Think Time : N.A Minimum Instruction Time : 0

Correct Marks : 5 Wrong Marks : 1

Question Key Details :

Key	Value
Comprehension	Comp2

गद्यांश को ध्यानपूर्वक पढ़िए और निम्न प्रश्न का उत्तर दीजिए :

“सिपाहियों ने किसी न किसी विशेष संकेत के साथ अपनी कार्यवाही शुरू की। कई जगह शाम के समय तोप का गोला दागा गया तो कहीं बिगुल बजाकर विद्रोह का संकेत दिया गया। उन्होंने सरकारी भवनों पर हमला कर दिया। गोरों से संबंधित हर चीज और हर शख्स हमले का निशाना था। जैसाकि एक ब्रिटिश अफसर ने लिखा ब्रिटिश शासन “ताश के किले की तरह बिखर गया।”

इनमें से किसने, ‘चिनहट का युद्ध’ लड़ा और जिसमें ब्रिटिश सैनिकों की हार हुई?

- (1) नाना साहिब
- (2) कुँवर सिंह
- (3) मौली अहमदुल्लाह शाह
- (4) राजा शाह मल

Options :

212807128657. 1
212807128658. 2
212807128659. 3
212807128660. 4

Home Science

Group Number :	21
Group Id :	212807745
Group Maximum Duration :	45
Group Minimum Duration :	45
Show Attended Group? :	No
Edit Attended Group? :	No
Break time :	0
Group Marks :	200
Is this Group for Examiner? :	No
Examiner permission :	Cant View

Show Progress Bar? :

No

Home Science

Section Id :	212807877
Section Number :	1
Section type :	Online
Mandatory or Optional :	Mandatory
Number of Questions :	50
Number of Questions to be attempted :	40
Section Marks :	200
Enable Mark as Answered Mark for Review and Clear Response :	Yes
Maximum Instruction Time :	0
Sub-Section Number :	1
Sub-Section Id :	2128072530
Question Shuffling Allowed :	Yes
Is Section Default? :	null

Question Number : 736 Question Id : 21280732166 Question Type : MCQ Option Shuffling : No Is Question Mandatory : No Calculator : None
Response Time : N.A Think Time : N.A Minimum Instruction Time : 0

Correct Marks : 5 Wrong Marks : 1

Question Key Details :

Key	Value
Comprehension	MCQ

The patient nourished with special solutions which are given through a drip in a vein is known as :

- (1) Tube feeding
- (2) Direct feeding
- (3) Intravenous feeding
- (4) Liquid diets

Options :

212807128661. 1
212807128662. 2
212807128663. 3
212807128664. 4

Question Number : 736 Question Id : 21280732166 Question Type : MCQ Option Shuffling : No Is Question Mandatory : No Calculator : None
Response Time : N.A Think Time : N.A Minimum Instruction Time : 0

Correct Marks : 5 Wrong Marks : 1

Question Key Details :

Key	Value
Comprehension	MCQ

रोगी को पोषण विशेष विलयनों से दिया जाता है, जिन्हें शिरा में ड्रिप द्वारा पहुँचाया जाता है। इस क्रिया को जाना जाता है :-

- (1) ट्यूब/नली द्वारा भोजन ग्रहण करना
- (2) सीधे खिलाना
- (3) अतः शिरा संभरण
- (4) तरल आहार

Options :

212807128661. 1
212807128662. 2
212807128663. 3
212807128664. 4

Question Number : 737 Question Id : 21280732167 Question Type : MCQ Option Shuffling : No Is Question Mandatory : No Calculator : None
Response Time : N.A Think Time : N.A Minimum Instruction Time : 0

Correct Marks : 5 Wrong Marks : 1

Question Key Details :

Key	Value
Comprehension	MCQ

The term "hidden hunger" is used for _____.

- (1) Protein-Energy Malnutrition
- (2) Micronutrient Deficiency
- (3) Kwashiorkor
- (4) Marasmus

Options :

212807128665. 1
212807128666. 2
212807128667. 3
212807128668. 4

Question Number : 737 Question Id : 21280732167 Question Type : MCQ Option Shuffling : No Is Question Mandatory : No Calculator : None
Response Time : N.A Think Time : N.A Minimum Instruction Time : 0

Correct Marks : 5 Wrong Marks : 1

Question Key Details :

Key	Value
Comprehension	MCQ

'छपी हुई भूख' शब्द का प्रयोग होता है _____.

- (1) प्रोटीन-ऊर्जा कुपोषण
- (2) सूक्ष्म पोषक हीनता
- (3) क्वाशि
- (4) मरास्मस

Options :

212807128665. 1
212807128666. 2
212807128667. 3
212807128668. 4

Question Number : 738 Question Id : 21280732168 Question Type : MCQ Option Shuffling : No Is Question Mandatory : No Calculator : None
Response Time : N.A Think Time : N.A Minimum Instruction Time : 0

Correct Marks : 5 Wrong Marks : 1

Question Key Details :

Key	Value
Comprehension	MCQ

NNP stands for :

- (1) National Nutrition Plan
- (2) National Nutrition Project
- (3) National Nutrition Programme
- (4) National Nutrition Policy

Options :

212807128669. 1
212807128670. 2
212807128671. 3
212807128672. 4

Question Number : 738 Question Id : 21280732168 Question Type : MCQ Option Shuffling : No Is Question Mandatory : No Calculator : None
Response Time : N.A Think Time : N.A Minimum Instruction Time : 0

Correct Marks : 5 Wrong Marks : 1

Question Key Details :

Key	Value
Comprehension	MCQ

NNP का पूर्ण रूप क्या है ?

- (1) राष्ट्रीय पोषण योजना
- (2) राष्ट्रीय पोषण प्रोटेक्ट
- (3) राष्ट्रीय पोषण कार्यक्रम
- (4) राष्ट्रीय पोषण नीति

Options :

212807128669. 1
212807128670. 2
212807128671. 3
212807128672. 4

Question Number : 739 Question Id : 21280732169 Question Type : MCQ Option Shuffling : No Is Question Mandatory : No Calculator : None
Response Time : N.A Think Time : N.A Minimum Instruction Time : 0

Correct Marks : 5 Wrong Marks : 1

Question Key Details :

Key	Value
Comprehension	MCQ

Food service industry may also be referred to as _____.

- (1) Catering industry
- (2) Commercial Services
- (3) Non-commercial Services System
- (4) Welfare Services industry

Options :

212807128673. 1
212807128674. 2
212807128675. 3
212807128676. 4

Question Number : 739 Question Id : 21280732169 Question Type : MCQ Option Shuffling : No Is Question Mandatory : No Calculator : None
Response Time : N.A Think Time : N.A Minimum Instruction Time : 0

Correct Marks : 5 Wrong Marks : 1

Question Key Details :

Key	Value
Comprehension	MCQ

खाद्य सेवा उद्योग को _____ से भी संदर्भित किया जाता है।

- (1) खानपान उद्योग
- (2) वाणिज्यिक सेवाएँ
- (3) गैर-व्यवसायिक सेवा प्रणाली
- (4) कल्याण सेवा उद्योग

Options :

212807128673. 1
212807128674. 2
212807128675. 3
212807128676. 4

Question Number : 740 Question Id : 21280732170 Question Type : MCQ Option Shuffling : No Is Question Mandatory : No Calculator : None
Response Time : N.A Think Time : N.A Minimum Instruction Time : 0

Correct Marks : 5 Wrong Marks : 1

Question Key Details :

Key	Value

“Food is prepared centrally at one place, but it is distributed to several remote areas for final preparation and service, since the food production center and the service areas are located in separate facilities.” These type of food service systems is known as :

- (1) Conventional food service system
- (2) Conventional liquid service system
- (3) Ready-prepared food service system
- (4) Assembly-service system

Options :

212807128677. 1
212807128678. 2
212807128679. 3
212807128680. 4

Question Number : 740 Question Id : 21280732170 Question Type : MCQ Option Shuffling : No Is Question Mandatory : No Calculator : None
Response Time : N.A Think Time : N.A Minimum Instruction Time : 0

Correct Marks : 5 Wrong Marks : 1

Question Key Details :

Key	Value
Comprehension	MCQ

“ भोजन एक स्थान पर केंद्रीय रूप से तैयार किया जाता है, लेकिन इसे अंतिम तैयारी और सेवा के लिए बहुत से दूरस्थ क्षेत्रों में वितरित किया जाता है, क्योंकि भोजन उत्पादन केंद्र और परोसने वाले क्षेत्र अलग सुविधाओं वाले स्थानों पर होते हैं।” इस प्रकार की भोजन सेवा प्रणाली को कहा जाता है :

- (1) परंपरागत भोजन प्रणाली
- (2) कॉमिसरी भोजन (रसद विभाग)
- (3) तैयार भोजन संबंधी सेवा प्रणाली
- (4) संयोजक (असेंबली) सेवा प्रणाली

Options :

212807128677. 1
212807128678. 2
212807128679. 3
212807128680. 4

Question Number : 741 Question Id : 21280732171 Question Type : MCQ Option Shuffling : No Is Question Mandatory : No Calculator : None
Response Time : N.A Think Time : N.A Minimum Instruction Time : 0

Correct Marks : 5 Wrong Marks : 1

Question Key Details :

Key	Value
Comprehension	MCQ

Which deficiency is the most common cause of childhood blindness ?

- (1) Iron-deficiency anemia (IDA)
- (2) Vitamin A deficiency (VAD)
- (3) Iodine deficiency disorder (IDD)
- (4) Zinc deficiency

Options :

212807128681. 1
212807128682. 2
212807128683. 3
212807128684. 4

Question Number : 741 Question Id : 21280732171 Question Type : MCQ Option Shuffling : No Is Question Mandatory : No Calculator : None
Response Time : N.A Think Time : N.A Minimum Instruction Time : 0

Correct Marks : 5 Wrong Marks : 1

Question Key Details :

Key	Value
Comprehension	MCQ

बाल्तावस्था के अंधेपन का सामान्य कारण किसकी कमी है?

- (1) लौहतत्व की कमी अनिमिया (IDA)
- (2) विटामिन A की कमी (VAD)
- (3) आयोडीन की कमी का विकार (IDD)
- (4) जिंक की कमी

Options :

212807128681. 1
212807128682. 2
212807128683. 3
212807128684. 4

Question Number : 742 Question Id : 21280732172 Question Type : MCQ Option Shuffling : No Is Question Mandatory : No Calculator : None
Response Time : N.A Think Time : N.A Minimum Instruction Time : 0

Correct Marks : 5 Wrong Marks : 1

Question Key Details :

Key	Value
Comprehension	MCQ

Match List - I with List - II.

List - I

Types of Food Processing

- (A) Formulated foods
- (B) Functional foods
- (C) Preserved foods
- (D) Manufactured foods

List - II

Food Products

- (I) Pickles, Jams, Squashes
- (II) Frozen peas and vegetables
- (III) Breads and biscuits
- (IV) Probiotics drinks and ice cream

Choose the correct answer from the options given below :

- (1) (A)-(III), (B)-(II), (C)-(IV), (D)-(I)
- (2) (A)-(III), (B)-(IV), (C)-(II), (D)-(I)
- (3) (A)-(I), (B)-(III), (C)-(II), (D)-(IV)
- (4) (A)-(I), (B)-(IV), (C)-(II), (D)-(III)

Options :

212807128685. 1
212807128686. 2
212807128687. 3
212807128688. 4

Question Number : 742 Question Id : 21280732172 Question Type : MCQ Option Shuffling : No Is Question Mandatory : No Calculator : None
Response Time : N.A Think Time : N.A Minimum Instruction Time : 0

Correct Marks : 5 Wrong Marks : 1

Question Key Details :

Key	Value
Comprehension	MCQ

सूची-I से सूची-II का मिलान कीजिए:

सूची-I

भोजन प्रसंस्करण के प्रकार

- (A) खाद्य व्युत्पन्न
- (B) कार्यमूलक खाद्य
- (C) विनिर्मित खाद्य
- (D) फॉर्मूलाबद्ध खाद्य

सूची-II

खाद्य उत्पाद

- (I) आचार, जैम स्ववाश
- (II) हिमशीतित मटर और सब्जियाँ
- (III) ब्रेड और बिस्कट
- (IV) प्रोबायोटिक पेय और लाइकोपीन

नीचे दिए गए विकल्पों में से सही उत्तर का चयन कीजिए :

- (1) (A)-(III), (B)-(II), (C)-(IV), (D)-(I)
- (2) (A)-(III), (B)-(IV), (C)-(II), (D)-(I)
- (3) (A)-(I), (B)-(III), (C)-(II), (D)-(IV)
- (4) (A)-(I), (B)-(IV), (C)-(II), (D)-(III)

Options :

- 212807128685. 1
- 212807128686. 2
- 212807128687. 3
- 212807128688. 4

Question Number : 743 Question Id : 21280732173 Question Type : MCQ Option Shuffling : No Is Question Mandatory : No Calculator : None Response Time : N.A Think Time : N.A Minimum Instruction Time : 0

Correct Marks : 5 Wrong Marks : 1

Question Key Details :

Key	Value
Comprehension	MCQ

The set of methods and techniques used to transform raw ingredients into finished and semi-finished products. It is known as :

- (1) Food Science
- (2) Food Technology
- (3) Food Processing
- (4) Food Services

Options :

- 212807128689. 1
- 212807128690. 2
- 212807128691. 3
- 212807128692. 4

Question Number : 743 Question Id : 21280732173 Question Type : MCQ Option Shuffling : No Is Question Mandatory : No Calculator : None Response Time : N.A Think Time : N.A Minimum Instruction Time : 0

Correct Marks : 5 Wrong Marks : 1

Question Key Details :

Key	Value
Comprehension	MCQ

कच्चे माल को तैयार और अर्ध-तैयार उत्पादों में बदलने के लिए प्रयोग की जाने वाली विधियों और तकनीकों के समूह को जाना जाता है :

- (1) खाद्य विज्ञान
- (2) खाद्य तकनीकी
- (3) खाद्य प्रसंस्करण
- (4) खाद्य सेवाएँ

Options :

212807128689. 1
212807128690. 2
212807128691. 3
212807128692. 4

Question Number : 744 Question Id : 21280732174 Question Type : MCQ Option Shuffling : No Is Question Mandatory : No Calculator : None
Response Time : N.A Think Time : N.A Minimum Instruction Time : 0

Correct Marks : 5 Wrong Marks : 1

Question Key Details :

Key	Value
Comprehension	MCQ

An approach to food manufacture and storage in which raw materials and each individual steps in a specific process are considered in detail and evaluated for its potential to contribute to development of pathogenic micro organisms or other food hazards, is a part of which Food safety Management System ?

- (1) HACCP
- (2) GMP
- (3) GHP
- (4) PFA

Options :

212807128693. 1
212807128694. 2
212807128695. 3
212807128696. 4

Question Number : 744 Question Id : 21280732174 Question Type : MCQ Option Shuffling : No Is Question Mandatory : No Calculator : None
Response Time : N.A Think Time : N.A Minimum Instruction Time : 0

Correct Marks : 5 Wrong Marks : 1

Question Key Details :

Key	Value
Comprehension	MCQ

खाद्य निर्माण और भंडारण का एक उपागम, जिसमें कच्ची सामग्री और एक विशेष प्रक्रम के प्रत्येक चरण पर विस्तार से ध्यान दिया जाता है, जिससे कि रोगजनक सूक्ष्मजीवों अथवा अन्य खाद्य संकटों के विकास में योगदान के लिए उसकी क्षमता का आकलन किया जा सके। यह खाद्य सुरक्षा प्रबंधन के किस भाग में आता है?

- (1) एच.ए.सी.सी.पी.
- (2) जी.एम.पी.
- (3) जी.एच.पी.
- (4) पी.एफ.ए.

Options :

212807128693. 1
212807128694. 2
212807128695. 3

Question Number : 745 Question Id : 21280732175 Question Type : MCQ Option Shuffling : No Is Question Mandatory : No Calculator : None
Response Time : N.A Think Time : N.A Minimum Instruction Time : 0

Correct Marks : 5 Wrong Marks : 1

Question Key Details :

Key	Value
Comprehension	MCQ

In which year, Indian Government has passed "Food Safety and Standards Act (FSSA)" ?

- (1) 2005
- (2) 2001
- (3) 2006
- (4) 2009

Options :

212807128697. 1
212807128698. 2
212807128699. 3
212807128700. 4

Question Number : 745 Question Id : 21280732175 Question Type : MCQ Option Shuffling : No Is Question Mandatory : No Calculator : None
Response Time : N.A Think Time : N.A Minimum Instruction Time : 0

Correct Marks : 5 Wrong Marks : 1

Question Key Details :

Key	Value
Comprehension	MCQ

भारतीय सरकार ने "खाद्य सुरक्षा एवं मानक अधिनियम (एफ.एस.एस.ए.)" किस वर्ष में लागू किया ?

- (1) 2005
- (2) 2001
- (3) 2006
- (4) 2009

Options :

212807128697. 1
212807128698. 2
212807128699. 3
212807128700. 4

Question Number : 746 Question Id : 21280732176 Question Type : MCQ Option Shuffling : No Is Question Mandatory : No Calculator : None
Response Time : N.A Think Time : N.A Minimum Instruction Time : 0

Correct Marks : 5 Wrong Marks : 1

Question Key Details :

Key	Value
Comprehension	MCQ

In this approach nutrient supplements are given to vulnerable groups. i.e., those who are at risk of deficiency and those who have deficiency.

- (1) Diet or food-based strategies
- (2) Nutrient-based approach
- (3) Health care based approach
- (4) Dietary approach

Options :

212807128701. 1
212807128702. 2
212807128703. 3
212807128704. 4

Question Number : 746 Question Id : 21280732176 Question Type : MCQ Option Shuffling : No Is Question Mandatory : No Calculator : None
Response Time : N.A Think Time : N.A Minimum Instruction Time : 0

Correct Marks : 5 Wrong Marks : 1

Question Key Details :

Key	Value
Comprehension	MCQ

इस उपागम के तहत असुरक्षित समूह जैसे जिन्हें पोषक तत्वों की कमी का खतरा है या पोषक तत्वों की कमी है को पोषक तत्वों को पूरकों की खुराक दी जाती है।

- (1) आहार आधारित उपागम
- (2) पोषक आधारित उपागम
- (3) स्वास्थ्य सेवाओं आधारित उपागम
- (4) आहार उपागम

Options :

212807128701. 1

212807128702. 2

212807128703. 3

212807128704. 4

Question Number : 747 Question Id : 21280732177 Question Type : MCQ Option Shuffling : No Is Question Mandatory : No Calculator : None
Response Time : N.A Think Time : N.A Minimum Instruction Time : 0

Correct Marks : 5 Wrong Marks : 1

Question Key Details :

Key	Value
Comprehension	MCQ

Government of India has addressed the needs of young children groups by offering pre-school education through "anganwadis" that operates under -

- (1) ICDS
- (2) NCF
- (3) NGOs
- (4) NCERT

Options :

212807128705. 1

212807128706. 2

212807128707. 3

212807128708. 4

Question Number : 747 Question Id : 21280732177 Question Type : MCQ Option Shuffling : No Is Question Mandatory : No Calculator : None
Response Time : N.A Think Time : N.A Minimum Instruction Time : 0

Correct Marks : 5 Wrong Marks : 1

Question Key Details :

Key	Value
Comprehension	MCQ

भारत सरकार ने आंगनबाड़ियों को माध्यम से प्री स्कूल शिक्षा प्रदान करके छोटे बच्चों के समूह की आवश्यकताओं को पूरा किया है, जो _____ के तहत कार्य करती है।

- (1) आई.सी.डी.एस.
- (2) एन.सी.एफ.
- (3) एन.जी.ओ.ए.
- (4) एन.सी.ई.आर.टी.

Options :

212807128705. 1

212807128706. 2

212807128707. 3
212807128708. 4

Question Number : 748 Question Id : 21280732178 Question Type : MCQ Option Shuffling : No Is Question Mandatory : No Calculator : None
Response Time : N.A Think Time : N.A Minimum Instruction Time : 0
Correct Marks : 5 Wrong Marks : 1

Question Key Details :

Key	Value
Comprehension	MCQ

In which counselling level, counsellors have received special training in counselling and have the required qualifications ?

- (1) Informal Counselling
- (2) Non specialist Counselling
- (3) Professional Counselling
- (4) Eclectic Counselling

Options :

212807128709. 1
212807128710. 2
212807128711. 3
212807128712. 4

Question Number : 748 Question Id : 21280732178 Question Type : MCQ Option Shuffling : No Is Question Mandatory : No Calculator : None
Response Time : N.A Think Time : N.A Minimum Instruction Time : 0
Correct Marks : 5 Wrong Marks : 1

Question Key Details :

Key	Value
Comprehension	MCQ

किस परामर्श स्तर पर, परामर्श दाताओं को परामर्श देने के लिए विशिष्ट प्रशिक्षण प्राप्त करने और आवश्यक योग्यता चाहिए होती है?

- (1) औपचारिक परामर्श
- (2) गैर-विशेषज्ञ परामर्श
- (3) व्यवसायिक परामर्श
- (4) चयनशील (एक्लेक्टिक) परामर्श

Options :

212807128709. 1
212807128710. 2
212807128711. 3
212807128712. 4

Question Number : 749 Question Id : 21280732179 Question Type : MCQ Option Shuffling : No Is Question Mandatory : No Calculator : None
Response Time : N.A Think Time : N.A Minimum Instruction Time : 0
Correct Marks : 5 Wrong Marks : 1

Question Key Details :

Key	Value
Comprehension	MCQ

Early childhood is the phase of life from :

- (1) From birth till 8 years
- (2) 1 to 5 years
- (3) 2 to 8 years
- (4) 2 to 7 years

Options :

212807128713. 1

212807128714. 2
212807128715. 3
212807128716. 4

Question Number : 749 Question Id : 21280732179 Question Type : MCQ Option Shuffling : No Is Question Mandatory : No Calculator : None
Response Time : N.A Think Time : N.A Minimum Instruction Time : 0

Correct Marks : 5 Wrong Marks : 1

Question Key Details :

Key	Value
Comprehension	MCQ

‘पूर्ण बालावस्था’ जीवन का चरण होता है :

- (1) जन्म से 8 वर्ष तक
- (2) 1 से 5 वर्ष तक
- (3) 2 से 8 वर्ष तक
- (4) 2 से 7 वर्ष तक

Options :

212807128713. 1
212807128714. 2
212807128715. 3
212807128716. 4

Question Number : 750 Question Id : 21280732180 Question Type : MCQ Option Shuffling : No Is Question Mandatory : No Calculator : None
Response Time : N.A Think Time : N.A Minimum Instruction Time : 0

Correct Marks : 5 Wrong Marks : 1

Question Key Details :

Key	Value
Comprehension	MCQ

Arrange the sequence in Ascending order of the launch year of there Govt. initiative.

- (A) National Policy for Older Persons
- (B) National Youth Policy
- (C) Juvenile Justice (Care and Protection of children) Act
- (D) Integrated Child Development Services (ICDS)
- (E) National Nutrition Policy

Choose the correct answer from the options given below :

- (1) (A), (D), (E), (A), (C)
- (2) (D), (E), (A), (C), (B)
- (3) (D), (E), (B), (C), (A)
- (4) (A), (E), (B), (C), (A)

Options :

212807128717. 1
212807128718. 2
212807128719. 3
212807128720. 4

Question Number : 750 Question Id : 21280732180 Question Type : MCQ Option Shuffling : No Is Question Mandatory : No Calculator : None
Response Time : N.A Think Time : N.A Minimum Instruction Time : 0

Correct Marks : 5 Wrong Marks : 1

Question Key Details :

Key	Value
Comprehension	MCQ

निम्नलिखित को सरकार की पहल के लॉन्च/प्रमोचन वर्ष के आरोही क्रम में अनुक्रम को व्यवस्थित कीजिए।

- (A) वृद्ध व्यक्तियों के लिए राष्ट्रीय नीति
- (B) राष्ट्रीय युवा नीति
- (C) किशोर न्याय (बच्चों की देखभाल और संरक्षण) अधिनियम
- (D) Integrated Child Development Services (ICDS)
- (E) राष्ट्रीय पोषण नीति

नीचे दिए गए विकल्पों में से सही उत्तर का चयन कीजिए :

- (1) (A), (D), (E), (A), (C)
- (2) (D), (E), (A), (C), (B)
- (3) (D), (E), (B), (C), (A)
- (4) (A), (E), (B), (C), (A)

Options :

- 212807128717. 1
- 212807128718. 2
- 212807128719. 3
- 212807128720. 4

Question Number : 751 Question Id : 21280732181 Question Type : MCQ Option Shuffling : No Is Question Mandatory : No Calculator : None
Response Time : N.A Think Time : N.A Minimum Instruction Time : 0

Correct Marks : 5 Wrong Marks : 1

Question Key Details :

Key	Value
Comprehension	MCQ

Arrange the correct sequence of programme development cycle :

- (A) Analysing situation or content
- (B) Designing on action plan
- (C) Evaluating the plan
- (D) Implementing the plan

Choose the correct answer from the options given below :

- (1) (A), (B), (D), (C)
- (2) (A), (C), (B), (D)
- (3) (A), (D), (B), (C)
- (4) (A), (B), (C), (D)

Options :

- 212807128721. 1
- 212807128722. 2
- 212807128723. 3
- 212807128724. 4

Question Number : 751 Question Id : 21280732181 Question Type : MCQ Option Shuffling : No Is Question Mandatory : No Calculator : None
Response Time : N.A Think Time : N.A Minimum Instruction Time : 0

Correct Marks : 5 Wrong Marks : 1

Question Key Details :

Key	Value
Comprehension	MCQ

कार्यक्रम विकास चक्र को उचित क्रम में व्यवस्थित कीजिए :

- (A) स्थिति या सामग्री का विश्लेषण
- (B) कार्य योजना का प्रारूप बनाना
- (C) प्रारूप (प्लान) का मूल्यांकन
- (D) योजना का क्रियान्वयन

नीचे दिए गए विकल्पों में से सही उत्तर का चयन कीजिए :

- (1) (A), (B), (D), (C)
- (2) (A), (C), (B), (D)
- (3) (A), (D), (B), (C)
- (4) (A), (B), (C), (D)

Options :

- 212807128721. 1
- 212807128722. 2
- 212807128723. 3
- 212807128724. 4

Question Number : 752 Question Id : 21280732182 Question Type : MCQ Option Shuffling : No Is Question Mandatory : No Calculator : None Response Time : N.A Think Time : N.A Minimum Instruction Time : 0

Correct Marks : 5 Wrong Marks : 1

Question Key Details :

Key	Value
Comprehension	MCQ

_____ is repeating of lines, colours, other elements of design or details to create a pattern by which the eye can flow through the material or article/garment.

- (1) Emphasis
- (2) Rhythm
- (3) Harmony
- (4) Balance

Options :

- 212807128725. 1
- 212807128726. 2
- 212807128727. 3
- 212807128728. 4

Question Number : 752 Question Id : 21280732182 Question Type : MCQ Option Shuffling : No Is Question Mandatory : No Calculator : None Response Time : N.A Think Time : N.A Minimum Instruction Time : 0

Correct Marks : 5 Wrong Marks : 1

Question Key Details :

Key	Value
Comprehension	MCQ

_____ डिजाइन या विवरण की लाइनों, रंगों अथवा अन्य तत्वों को दोहराकर पैटर्न का सर्जन करना, जिसके माध्यम से पदार्थ या वस्तु/पोषक आँख को अच्छा लगे।

- (1) महत्त्व
- (2) आवृत्तिता
- (3) सामंजस्यता
- (4) संतुलन

Options :

- 212807128725. 1

212807128726. 2
212807128727. 3
212807128728. 4

Question Number : 753 Question Id : 21280732183 Question Type : MCQ Option Shuffling : No Is Question Mandatory : No Calculator : None
Response Time : N.A Think Time : N.A Minimum Instruction Time : 0

Correct Marks : 5 Wrong Marks : 1

Question Key Details :

Key	Value
Comprehension	MCQ

Arrange in correct sequence of five stages of fashion cycle.

- (A) Introduction of a style
- (B) Peak of popularity
- (C) Decline in popularity
- (D) Increase in popularity
- (E) Rejection of style or Obsolescence

Choose the correct answer from the options given below :

- (1) (A), (D), (E), (B), (C)
- (2) (B), (A), (D), (C), (E)
- (3) (A), (D), (B), (C), (E)
- (4) (A), (B), (D), (C), (E)

Options :

212807128729. 1
212807128730. 2
212807128731. 3
212807128732. 4

Question Number : 753 Question Id : 21280732183 Question Type : MCQ Option Shuffling : No Is Question Mandatory : No Calculator : None
Response Time : N.A Think Time : N.A Minimum Instruction Time : 0

Correct Marks : 5 Wrong Marks : 1

Question Key Details :

Key	Value
Comprehension	MCQ

फैशन चक्र के पाँच चरणों को सही अनुक्रम में व्यवस्थित कीजिए।

- (A) शैली का परिचय
- (B) लोकप्रियता का शिखर
- (C) लोकप्रियता में गिरावट
- (D) लोकप्रियता में वृद्धि
- (E) शैली की अस्वीकृति या अप्रचलन

नीचे दिए गए विकल्पों में से सही उत्तर का चयन कीजिए :

- (1) (A), (D), (E), (B), (C)
- (2) (B), (A), (D), (C), (E)
- (3) (A), (D), (B), (C), (E)
- (4) (A), (B), (D), (C), (E)

Options :

212807128729. 1
212807128730. 2
212807128731. 3
212807128732. 4

Question Number : 754 Question Id : 21280732184 Question Type : MCQ Option Shuffling : No Is Question Mandatory : No Calculator : None
Response Time : N.A Think Time : N.A Minimum Instruction Time : 0

Correct Marks : 5 Wrong Marks : 1

Question Key Details :

Key	Value
Comprehension	MCQ

An area where the fabric has been damaged by abraision or friction during production stages is called :

- (1) Baggy
- (2) Smash
- (3) Misread
- (4) Chafe

Options :

212807128733. 1
212807128734. 2
212807128735. 3
212807128736. 4

Question Number : 754 Question Id : 21280732184 Question Type : MCQ Option Shuffling : No Is Question Mandatory : No Calculator : None
Response Time : N.A Think Time : N.A Minimum Instruction Time : 0

Correct Marks : 5 Wrong Marks : 1

Question Key Details :

Key	Value
Comprehension	MCQ

एक भाग जहाँ कपड़ा रगड़ खरकर या घर्षण से क्षतिग्रस्त हो जाता है कहलाता है :

- (1) झालेदार
- (2) फटना
- (3) गलत ताना-बाना
- (4) रगड़

Options :

212807128733. 1
212807128734. 2
212807128735. 3
212807128736. 4

Question Number : 755 Question Id : 21280732185 Question Type : MCQ Option Shuffling : No Is Question Mandatory : No Calculator : None
Response Time : N.A Think Time : N.A Minimum Instruction Time : 0

Correct Marks : 5 Wrong Marks : 1

Question Key Details :

Key	Value
Comprehension	MCQ

In which year Government of India has accepted established Consumer Protection Act (CPA) ?

- (1) 1980
- (2) 1999
- (3) 1986
- (4) 1932

Options :

212807128737. 1
212807128738. 2
212807128739. 3
212807128740. 4

Question Number : 755 Question Id : 21280732185 Question Type : MCQ Option Shuffling : No Is Question Mandatory : No Calculator : None Response Time : N.A Think Time : N.A Minimum Instruction Time : 0

Correct Marks : 5 Wrong Marks : 1

Question Key Details :

Key	Value
Comprehension	MCQ

किस वर्ष भारत सरकार उपभोक्ता संरक्षण अधिनियम (CPA) को स्थापित करना स्वीकृत किया?

- (1) 1980
- (2) 1999
- (3) 1986
- (4) 1932

Options :

212807128737. 1
212807128738. 2
212807128739. 3
212807128740. 4

Question Number : 756 Question Id : 21280732186 Question Type : MCQ Option Shuffling : No Is Question Mandatory : No Calculator : None Response Time : N.A Think Time : N.A Minimum Instruction Time : 0

Correct Marks : 5 Wrong Marks : 1

Question Key Details :

Key	Value
Comprehension	MCQ

The Right to Information Act (RTI) came into being in _____ as a result of consistent advocacy efforts by social activists and NGO who worked closely at the grass root level ?

- (1) 2001
- (2) 2003
- (3) 1998
- (4) 2005

Options :

212807128741. 1
212807128742. 2
212807128743. 3
212807128744. 4

Question Number : 756 Question Id : 21280732186 Question Type : MCQ Option Shuffling : No Is Question Mandatory : No Calculator : None Response Time : N.A Think Time : N.A Minimum Instruction Time : 0

Correct Marks : 5 Wrong Marks : 1

Question Key Details :

Key	Value
Comprehension	MCQ

सूचना का अधिकार अधिनियम (आरटीआई) _____ में, सामाजिक कार्यकर्ताओं और एन.जी.ओ. द्वारा लगातार वकालत के प्रयासों के परिणामस्वरूप अस्तित्व में आया, जिन्होंने जमीनी स्तर पर मिलकर काम किया।

- (1) 2001
- (2) 2003
- (3) 1998
- (4) 2005

Options :

212807128741. 1
212807128742. 2
212807128743. 3
212807128744. 4

Question Number : 757 Question Id : 21280732187 Question Type : MCQ Option Shuffling : No Is Question Mandatory : No Calculator : None
Response Time : N.A Think Time : N.A Minimum Instruction Time : 0

Correct Marks : 5 Wrong Marks : 1

Question Key Details :

Key	Value
Comprehension	MCQ

Match List - I with List - II.

List - I

Career Avenue

- (A) Hospitality Designer
- (B) Draughts persons
- (C) Furniture company representative
- (D) Design illustrator

List - II

Focus of work

- (I) Involved in sales and marketing
- (II) Specifically undertaking restaurant, hotel , etc. jobs
- (III) A person who draws the details of plan manual with details
- (IV) Drawing the plan layout, elevations, views and working details using different software

Choose the **correct** answer from the options given below :

- (1) (A)-(I), (B)-(IV), (C)-(II), (D)-(III)
- (2) (A)-(II), (B)-(I), (C)-(III), (D)-(IV)
- (3) (A)-(II), (B)-(III), (C)-(I), (D)-(IV)
- (4) (A)-(II), (B)-(I), (C)-(III), (D)-(IV)

Options :

212807128745. 1

212807128746. 2

212807128747. 3

212807128748. 4

Question Number : 757 Question Id : 21280732187 Question Type : MCQ Option Shuffling : No Is Question Mandatory : No Calculator : None
Response Time : N.A Think Time : N.A Minimum Instruction Time : 0

Correct Marks : 5 Wrong Marks : 1

Question Key Details :

Key	Value
Comprehension	MCQ

सूची-I से सूची-II का मिलान कीजिए:

सूची-I

जीविका के लिए एवेन्यू

- (A) आतिथ्य डिजायनर
(B) ड्राफ्ट (मसौदा बनाने वाली) व्यक्ति
(C) फर्नीचर कंपनी के प्रतिनिधि
(D) डिजाइन प्रदर्शक

सूची-II

कार्य का केन्द्र

- (I) विक्री और मार्केटिंग में संलग्न
(II) विशेष रूप से रेस्तरां, होटल आदि की नौकरियों को करने वाले लोग
(III) ऐसा व्यक्ति जो योजना नियमावली के विवरणों को विस्तार से बनाता है
(IV) योजना की ड्राइंग उन्नयन, दृश्य और विभिन्न सॉफ्टवेयर के उपयोग द्वारा ड्राइंग के विवरण बनाना

नीचे दिए गए विकल्पों में से सही उत्तर का चयन कीजिए :

- (1) (A)-(I), (B)-(IV), (C)-(II), (D)-(III)
(2) (A)-(II), (B)-(I), (C)-(III), (D)-(IV)
(3) (A)-(II), (B)-(III), (C)-(I), (D)-(IV)
(4) (A)-(II), (B)-(I), (C)-(III), (D)-(IV)

Options :

212807128745. 1
212807128746. 2
212807128747. 3
212807128748. 4

Question Number : 758 Question Id : 21280732188 Question Type : MCQ Option Shuffling : No Is Question Mandatory : No Calculator : None
Response Time : N.A Think Time : N.A Minimum Instruction Time : 0

Correct Marks : 5 Wrong Marks : 1

Question Key Details :

Key	Value
Comprehension	MCQ

Which of the following consumer rights are covered under the consumer protection act ?

- (A) Right to safety
(B) Right to risk redressal
(C) Right to consumer education
(D) Right to awareness
(E) Right to be heard

Choose the correct answer from the options given below :

- (1) (A), (B), (E), (C) Only
(2) (A), (B), (C), (D) Only
(3) (A), (D), (C), (E) Only
(4) (B), (D), (E), (A) Only

Options :

212807128749. 1
212807128750. 2
212807128751. 3
212807128752. 4

Question Number : 758 Question Id : 21280732188 Question Type : MCQ Option Shuffling : No Is Question Mandatory : No Calculator : None
Response Time : N.A Think Time : N.A Minimum Instruction Time : 0

Correct Marks : 5 Wrong Marks : 1

Question Key Details :

Key	Value
Comprehension	MCQ

निम्नलिखित में से कौन-से उपभोक्ता अधिकार उपभोक्ता संरक्षण कानून के तहत आते हैं ?

- (A) सुरक्षा का अधिकार
- (B) पुर्नवसन का अधिकार
- (C) उपभोक्ता शिक्षा का अधिकार
- (D) जागरूकता का अधिकार
- (E) सुनवाई करने का अधिकार

नीचे दिए गए विकल्पों में से **सही उत्तर** का चयन कीजिए :

- (1) केवल (A), (B), (E), (C)
- (2) केवल (A), (B), (C), (D)
- (3) केवल (A), (D), (C), (E)
- (4) केवल (B), (D), (E), (A)

Options :

- 212807128749. 1
- 212807128750. 2
- 212807128751. 3
- 212807128752. 4

Question Number : 759 Question Id : 21280732189 Question Type : MCQ Option Shuffling : No Is Question Mandatory : No Calculator : None Response Time : N.A Think Time : N.A Minimum Instruction Time : 0

Correct Marks : 5 Wrong Marks : 1

Question Key Details :

Key	Value
Comprehension	MCQ

Match List - I with List - II.

List - I
Standard Marks

List - II
Symbol

(A) FPO

(I)



(B) Wool-mark

(II)



(C) ISI mark

(III)



(D) Hallmark

(IV)



Choose the **correct** answer from the options given below :

(1) (A)-(II), (B)-(IV), (C)-(I), (D)-(III)

(2) (A)-(III), (B)-(IV), (C)-(I), (D)-(II)

(3) (A)-(III), (B)-(I), (C)-(IV), (D)-(II)

(4) (A)-(I), (B)-(II), (C)-(IV), (D)-(III)

Options :

212807128753. 1

212807128754. 2

212807128755. 3

212807128756. 4





Question Number : 759 Question Id : 21280732189 Question Type : MCQ Option Shuffling : No Is Question Mandatory : No Calculator : None Response Time : N.A Think Time : N.A Minimum Instruction Time : 0

Correct Marks : 5 Wrong Marks : 1

Question Key Details :

Key	Value
Comprehension	MCQ

सूची-I से सूची-II का मिलान कीजिए:

सूची-I Standard Marks	सूची-II Symbol
(A) एफ.पी.ओ.	(I) 
(B) वूल-मार्क	(II) 
(C) आई.एस.आई. मार्क	(III) 
(D) हॉलमार्क	(IV) 

नीचे दिए गए विकल्पों में से सही उत्तर का चयन कीजिए :

- (1) (A)-(II), (B)-(IV), (C)-(I), (D)-(III)
- (2) (A)-(III), (B)-(IV), (C)-(I), (D)-(II)
- (3) (A)-(III), (B)-(I), (C)-(IV), (D)-(II)
- (4) (A)-(I), (B)-(II), (C)-(IV), (D)-(III)

Options :

212807128753. 1
212807128754. 2
212807128755. 3
212807128756. 4

Question Number : 760 Question Id : 21280732190 Question Type : MCQ Option Shuffling : No Is Question Mandatory : No Calculator : None Response Time : N.A Think Time : N.A Minimum Instruction Time : 0

Correct Marks : 5 Wrong Marks : 1

Question Key Details :

Key	Value
Comprehension	MCQ

While composing a message, 7 C's of communication which should be kept in mind are :

- (1) Conciseness, Concreteness, Completeness, Courtesy, Correctness, Consideration, Clarity
- (2) Conciseness, Concreteness, Completeness, Coordination, Correctness, Consideration, Clarity
- (3) Completeness, Concreteness, Conciseness, Clarity, Consideration, Continuity, Correctness
- (4) Correctness, Consideration, Clarity, Completeness, Conciseness, Concreteness, Communicable

Options :

212807128757. 1
212807128758. 2
212807128759. 3
212807128760. 4

Question Number : 760 Question Id : 21280732190 Question Type : MCQ Option Shuffling : No Is Question Mandatory : No Calculator : None Response Time : N.A Think Time : N.A Minimum Instruction Time : 0

Correct Marks : 5 Wrong Marks : 1

Question Key Details :

Key	Value
Comprehension	MCQ

एक संदेश लिखते समय संचार के 7 C's जिन्हें ध्यान में रखना आवश्यक है, वे हैं :-

- (1) संक्षिप्तता, स्थूलता, संपूर्णता, शिष्टाचार, यथार्थता, विचार, स्पष्टता
- (2) संक्षिप्तता, स्थूलता, संपूर्णता, समन्वय, यथार्थता, विचार, स्पष्टता
- (3) संपूर्णता, स्थूलता, संक्षिप्तता, स्पष्टता, विचार, निरंतरता, यथार्थता
- (4) यथार्थता, विचार, स्पष्टता, संपूर्णता, संक्षिप्तता, स्थूलता, सूचनीय

Options :

212807128757. 1
212807128758. 2
212807128759. 3
212807128760. 4

Question Number : 761 Question Id : 21280732191 Question Type : MCQ Option Shuffling : No Is Question Mandatory : No Calculator : None
Response Time : N.A Think Time : N.A Minimum Instruction Time : 0

Correct Marks : 5 Wrong Marks : 1

Question Key Details :

Key	Value
Comprehension	MCQ

Which skills refer to the measure of a person's ability to operate within business organisations through social communication and interactions.

- (1) Listening skills
- (2) Interpersonal skills
- (3) Negotiation skills
- (4) Presentation skills

Options :

212807128761. 1
212807128762. 2
212807128763. 3
212807128764. 4

Question Number : 761 Question Id : 21280732191 Question Type : MCQ Option Shuffling : No Is Question Mandatory : No Calculator : None
Response Time : N.A Think Time : N.A Minimum Instruction Time : 0

Correct Marks : 5 Wrong Marks : 1

Question Key Details :

Key	Value
Comprehension	MCQ

कौन-से कौशल सामाजिक संचार और परस्पर बातचीत के माध्यम से व्यावसायिक संगठनों को भीतर काम करने की किसी व्यक्ति की क्षमता के माप को संदर्भित करते हैं।

- (1) श्रवा कौशल
- (2) पारम्परिक कौशल
- (3) बातचीत का कौशल (नेगोशिएशन)
- (4) प्रदर्शन कौशल

Options :

212807128761. 1
212807128762. 2
212807128763. 3
212807128764. 4

Question Number : 762 Question Id : 21280732192 Question Type : MCQ Option Shuffling : No Is Question Mandatory : No Calculator : None
Response Time : N.A Think Time : N.A Minimum Instruction Time : 0

Correct Marks : 5 Wrong Marks : 1

Question Key Details :

Key	Value
Comprehension	MCQ

Nutritional assessment is required to obtain information on the patient's nutritional status and nutrient needs. It involve :

- (A) Anthropometric measurement
- (B) Information collect about daily routine
- (C) Obtaining detailed information on health, diet, personal and medication histories
- (D) Relating the information on laboratory and physical measurements with the physician's diagrams
- (E) Understand how and why these problems occur

Choose the correct answer from the options given below :

- (1) (A), (B), (C) Only
- (2) (A), (C), (D) Only
- (3) (C), (D), (E) Only
- (4) (A), (C) (E) Only

Options :

- 212807128765. 1
- 212807128766. 2
- 212807128767. 3
- 212807128768. 4

Question Number : 762 Question Id : 21280732192 Question Type : MCQ Option Shuffling : No Is Question Mandatory : No Calculator : None
Response Time : N.A Think Time : N.A Minimum Instruction Time : 0

Correct Marks : 5 Wrong Marks : 1

Question Key Details :

Key	Value
Comprehension	MCQ

रोगी के पोषण की स्थिति और पोषक तत्वों की आवश्यकता के बारे में जानकारी प्राप्त करने के लिए पोषण संबंधी मूल्यांकन आवश्यक है। इसमें सम्मिलित है :

- (A) एंथ्रोपोमेट्रिक जांच
- (B) दैनिक रूटीन से सूचनाएं एकत्रित करना
- (C) स्वास्थ्य, आहार, व्यक्तिगत और मेडिकेशन इतिहास से व्यापक सूचना प्राप्त करना
- (D) चिकित्सक के आरेख, के साथ प्रयोगशाला और भौतिक माप की जानकारी से संबंधित
- (E) यह समझना कि क्यों और कैसे यह समस्या होती है

नीचे दिए गए विकल्पों में से सही उत्तर का चयन कीजिए :

- (1) केवल (A), (B), (C)
- (2) केवल (A), (C), (D)
- (3) केवल (C), (D), (E)
- (4) केवल (A), (C) (E)

Options :

- 212807128765. 1
- 212807128766. 2
- 212807128767. 3

Question Number : 763 Question Id : 21280732193 Question Type : MCQ Option Shuffling : No Is Question Mandatory : No Calculator : None
Response Time : N.A Think Time : N.A Minimum Instruction Time : 0

Correct Marks : 5 Wrong Marks : 1

Question Key Details :

Key	Value
Comprehension	MCQ

Factors influencing development of food services is :

- (A) Globalization
- (B) Religious Practices
- (C) Social and Economic changes
- (D) Government Policies
- (E) Technological Development

Choose the correct answer from the options given below :

- (1) (A), (B), (C), (E) Only
- (2) (A), (B), (C), (D) Only
- (3) (B), (C), (D), (E) Only
- (4) (A), (B), (D), (E) Only

Options :

- 212807128769. 1
- 212807128770. 2
- 212807128771. 3
- 212807128772. 4

Question Number : 763 Question Id : 21280732193 Question Type : MCQ Option Shuffling : No Is Question Mandatory : No Calculator : None
Response Time : N.A Think Time : N.A Minimum Instruction Time : 0

Correct Marks : 5 Wrong Marks : 1

Question Key Details :

Key	Value
Comprehension	MCQ

खाद्य सेवाओं को प्रभावित करने वाले कारक :

- (A) भूमण्डलीयकरण
- (B) धार्मिक परंपराएं
- (C) सामाजिक और आर्थिक परिवर्तन
- (D) सरकारी नीति
- (E) तकनीकी विकास

नीचे दिए गए विकल्पों में से सही उत्तर का चयन कीजिए :

- (1) केवल (A), (B), (C), (E)
- (2) केवल (A), (B), (C), (D)
- (3) केवल (B), (C), (D), (E)
- (4) केवल (A), (B), (D), (E)

Options :

- 212807128769. 1
- 212807128770. 2
- 212807128771. 3
- 212807128772. 4

Question Number : 764 Question Id : 21280732194 Question Type : MCQ Option Shuffling : No Is Question Mandatory : No Calculator : None
Response Time : N.A Think Time : N.A Minimum Instruction Time : 0

Correct Marks : 5 Wrong Marks : 1

Question Key Details :

Key	Value
Comprehension	MCQ

Food safety and quality can be ensured through :

- (A) Good food habits
- (B) Good Manufacturing Practices
- (C) Good Handling Practices
- (D) Hazard Analysis Critical Control Points

Choose the correct answer from the options given below :

- (1) (B), (C), (D) Only
- (2) (A), (B), (C) Only
- (3) (A), (C), (D) Only
- (4) (A), (B), (D) Only

Options :

- 212807128773. 1
- 212807128774. 2
- 212807128775. 3
- 212807128776. 4

Question Number : 764 Question Id : 21280732194 Question Type : MCQ Option Shuffling : No Is Question Mandatory : No Calculator : None
Response Time : N.A Think Time : N.A Minimum Instruction Time : 0

Correct Marks : 5 Wrong Marks : 1

Question Key Details :

Key	Value
Comprehension	MCQ

खाद्य सुरक्षा और गुणवत्ता को _____ के माध्यम से सुनिश्चित किया जा सकता है :

- (A) अच्छी खाद्य आदतें
- (B) अच्छे विनिर्माण अभ्यास
- (C) अच्छा संचालन अभ्यास
- (D) नुकसान विश्लेषण गंभीर बिंदु

नीचे दिए गए विकल्पों में से सही उत्तर का चयन कीजिए :

- (1) केवल (B), (C), (D)
- (2) केवल (A), (B), (C)
- (3) केवल (A), (C), (D)
- (4) केवल (A), (B), (D)

Options :

- 212807128773. 1
- 212807128774. 2
- 212807128775. 3
- 212807128776. 4

Question Number : 765 Question Id : 21280732195 Question Type : MCQ Option Shuffling : No Is Question Mandatory : No Calculator : None
Response Time : N.A Think Time : N.A Minimum Instruction Time : 0

Correct Marks : 5 Wrong Marks : 1

Question Key Details :

Key	Value
Comprehension	MCQ

As per the NCF (2005) Position Paper on Early Childhood Education published by NCERT, the basic objectives of ECCE are :

- (A) Holistic development of the child to enable him/her to realise the potential
- (B) Preparation for school
- (C) Providing support services for women and children
- (D) Facilitate training for education
- (E) Sensitivity to human problem

Choose the correct answer from the options given below :

- (1) (A), (C), (D) Only
- (2) (B), (C), (D) Only
- (3) (A), (B), (C) Only
- (4) (A), (B), (D) Only

Options :

- 212807128777. 1
- 212807128778. 2
- 212807128779. 3
- 212807128780. 4

Question Number : 765 Question Id : 21280732195 Question Type : MCQ Option Shuffling : No Is Question Mandatory : No Calculator : None
Response Time : N.A Think Time : N.A Minimum Instruction Time : 0

Correct Marks : 5 Wrong Marks : 1

Question Key Details :

Key	Value
Comprehension	MCQ

एन.सी.ई.आर.टी. द्वारा प्रकाशित प्रारंभिक बाल्यावस्था शिक्षण पर एन.सी.एफ. (2005) के पोजिशन पत्र के अनुसार, ई.सी.सी.ई. के मुख्य उद्देश्य है :

- (A) बच्चे का समग्र विकास करना ताकि उसे अपनी क्षमता का एहसास हो
- (B) विद्यालय के लिए तैयार करना
- (C) महिलाओं और बच्चों को सहायक सेवाएं प्रदान करना
- (D) शिक्षा के लिए प्रशिक्षण प्रदान करना
- (E) मानवीय समस्या के प्रति संवेदनशीलता

नीचे दिए गए विकल्पों में से सही उत्तर का चयन कीजिए :

- (1) केवल (A), (C), (D)
- (2) केवल (B), (C), (D)
- (3) केवल (A), (B), (C)
- (4) केवल (A), (B), (D)

Options :

- 212807128777. 1
- 212807128778. 2
- 212807128779. 3
- 212807128780. 4

Question Number : 766 Question Id : 21280732196 Question Type : MCQ Option Shuffling : No Is Question Mandatory : No Calculator : None
Response Time : N.A Think Time : N.A Minimum Instruction Time : 0

Correct Marks : 5 Wrong Marks : 1

Question Key Details :

Key	Value
Comprehension	MCQ

Arrange the methods of special education in order of their implementation.

- (A) Regular Evaluation
- (B) Assessment of child's level in different areas of development
- (C) Development of Individualised Education Programme
- (D) Access and use of support services

Choose the correct answer from the options given below :

- (1) (A), (B), (C), (D)
- (2) (B), (C), (A), (D)
- (3) (B), (C), (D), (A)
- (4) (A), (C), (D), (A)

Options :

- 212807128781. 1
- 212807128782. 2
- 212807128783. 3
- 212807128784. 4

Question Number : 766 Question Id : 21280732196 Question Type : MCQ Option Shuffling : No Is Question Mandatory : No Calculator : None Response Time : N.A Think Time : N.A Minimum Instruction Time : 0

Correct Marks : 5 Wrong Marks : 1

Question Key Details :

Key	Value
Comprehension	MCQ

विशेष शिक्षा की विधियों को उनके लागू करने के क्रम में लिखिये।

- (A) नियमित मूल्यांकन
- (B) विकास के विभिन्न क्षेत्रों में बालक के स्तर का मूल्यांकन
- (C) वैयक्तिक शिक्षा कार्यक्रम का विकास
- (D) सहायक सेवाओं तक पहुँच तथा उपयोग

नीचे दिए गए विकल्पों में से सही उत्तर का चयन कीजिए :

- (1) (A), (B), (C), (D)
- (2) (B), (C), (A), (D)
- (3) (B), (C), (D), (A)
- (4) (A), (C), (D), (A)

Options :

- 212807128781. 1
- 212807128782. 2
- 212807128783. 3
- 212807128784. 4

Question Number : 767 Question Id : 21280732197 Question Type : MCQ Option Shuffling : No Is Question Mandatory : No Calculator : None Response Time : N.A Think Time : N.A Minimum Instruction Time : 0

Correct Marks : 5 Wrong Marks : 1

Question Key Details :

Key	Value
Comprehension	MCQ

Functions of Public Relations (PR) :

- (A) Public relation policy
- (B) Popularity
- (C) Publicity
- (D) Maintain relations
- (E) Good relationship

Choose the correct answer from the options given below :

- (1) (A), (C), (B) Only
- (2) (A), (B), (D) Only
- (3) (A), (C), (E) Only
- (4) (A), (C), (D) Only

Options :

- 212807128785. 1
- 212807128786. 2
- 212807128787. 3
- 212807128788. 4

Question Number : 767 Question Id : 21280732197 Question Type : MCQ Option Shuffling : No Is Question Mandatory : No Calculator : None
Response Time : N.A Think Time : N.A Minimum Instruction Time : 0

Correct Marks : 5 Wrong Marks : 1

Question Key Details :

Key	Value
Comprehension	MCQ

जन संबंधी (पी. आर.) के कार्य :

- (A) जन संबंध नीति
- (B) लोकप्रियता
- (C) पब्लिसिटी
- (D) संबंधों को बनाये रखना
- (E) अच्छे संबंध होना

नीचे दिए गए विकल्पों में से सही उत्तर का चयन कीजिए :

- (1) केवल (A), (C), (B)
- (2) केवल (A), (B), (D)
- (3) केवल (A), (C), (E)
- (4) केवल (A), (C), (D)

Options :

- 212807128785. 1
- 212807128786. 2
- 212807128787. 3
- 212807128788. 4

Question Number : 768 Question Id : 21280732198 Question Type : MCQ Option Shuffling : No Is Question Mandatory : No Calculator : None
Response Time : N.A Think Time : N.A Minimum Instruction Time : 0

Correct Marks : 5 Wrong Marks : 1

Question Key Details :

Key	Value
Comprehension	MCQ

The study of work with the primary goal being to adopt the work environment to the worker. It is an adjustment of human and machine. This is known as :

- (1) Human resource
- (2) Ergonomics
- (3) Resource management
- (4) Technology transfer

Options :

- 212807128789. 1
- 212807128790. 2
- 212807128791. 3
- 212807128792. 4

Question Number : 768 Question Id : 21280732198 Question Type : MCQ Option Shuffling : No Is Question Mandatory : No Calculator : None Response Time : N.A Think Time : N.A Minimum Instruction Time : 0

Correct Marks : 5 Wrong Marks : 1

Question Key Details :

Key	Value
Comprehension	MCQ

कर्मचारी के अनुसार कार्य के वातावरण को अपनाने के प्रमुख उद्देश्य के साथ कार्य का अध्ययन। यह मनुष्यों तथा मशीनों का तालमेल है। इसे कहा जाता है :

- (1) मानव संसाधन
- (2) श्रम प्रभाविकी
- (3) संसाधन प्रबंधन
- (4) प्रौद्योगिकी स्थानान्तरण

Options :

- 212807128789. 1
- 212807128790. 2
- 212807128791. 3
- 212807128792. 4

Question Number : 769 Question Id : 21280732199 Question Type : MCQ Option Shuffling : No Is Question Mandatory : No Calculator : None Response Time : N.A Think Time : N.A Minimum Instruction Time : 0

Correct Marks : 5 Wrong Marks : 1

Question Key Details :

Key	Value
Comprehension	MCQ

In which sequence does an Automatic washer performs its operations ?

- (A) Washing
- (B) Regulation of Temperature of water
- (C) Filling up water
- (D) Rinsing
- (E) Water level control

Choose the correct answer from the options given below :

- (1) (B), (D), (A), (C), (E)
- (2) (A), (E), (C), (D), (B)
- (3) (C), (E), (B), (A), (D)
- (4) (E), (A), (C), (D), (B)

Options :

- 212807128793. 1
- 212807128794. 2

212807128795. 3
212807128796. 4

Question Number : 769 Question Id : 21280732199 Question Type : MCQ Option Shuffling : No Is Question Mandatory : No Calculator : None
Response Time : N.A Think Time : N.A Minimum Instruction Time : 0
Correct Marks : 5 Wrong Marks : 1

Question Key Details :

Key	Value
Comprehension	MCQ

स्वचालित वाशर अपने कार्य को किस क्रम में करता है?

- (A) धोना
- (B) जल के मापमान को नियमित करना
- (C) पानी भरना
- (D) खंगालना
- (E) जल स्तर नियंत्रण

नीचे दिए गए विकल्पों में से सही उत्तर का चयन कीजिए :

- (1) (B), (D), (A), (C), (E)
- (2) (A), (E), (C), (D), (B)
- (3) (C), (E), (B), (A), (D)
- (4) (E), (A), (C), (D), (B)

Options :

212807128793. 1
212807128794. 2
212807128795. 3
212807128796. 4

Question Number : 770 Question Id : 21280732200 Question Type : MCQ Option Shuffling : No Is Question Mandatory : No Calculator : None
Response Time : N.A Think Time : N.A Minimum Instruction Time : 0
Correct Marks : 5 Wrong Marks : 1

Question Key Details :

Key	Value
Comprehension	MCQ

Match List - I with List - II.

List - I

- (A) Quality Control
- (B) Quality Assurance
- (C) Quality Management
- (D) Standards

List - II

- (I) Implementation and monitoring of quality systems
- (II) Has certified figures by national, international agencies
- (III) To get 'Zero-Defect' Product
- (IV) Preventive problem management so it does not occur again

Choose the correct answer from the options given below :

- (1) (A)-(I), (B)-(III), (C)-(II), (D)-(IV)
- (2) (A)-(III), (B)-(IV), (C)-(I), (D)-(II)
- (3) (A)-(IV), (B)-(II), (C)-(III), (D)-(I)
- (4) (A)-(II), (B)-(IV), (C)-(I), (D)-(III)

Options :

212807128797. 1
212807128798. 2
212807128799. 3
212807128800. 4

Question Number : 770 Question Id : 21280732200 Question Type : MCQ Option Shuffling : No Is Question Mandatory : No Calculator : None
Response Time : N.A Think Time : N.A Minimum Instruction Time : 0

Correct Marks : 5 Wrong Marks : 1

Question Key Details :

Key	Value
Comprehension	MCQ

सूची-I से सूची-II का मिलान कीजिए:

सूची-I

- (A) गुणवत्ता नियंत्रण
- (B) गुणवत्ता आश्वासन
- (C) गुणवत्ता प्रबंधन
- (D) मानक

सूची-II

- (I) गुणवत्ता प्रणाली को लागू करने तथा मॉनीटर करना
- (II) राष्ट्रीय तथा अंतरराष्ट्रीय एजेंसियों द्वारा प्रमाणित आकृति
- (III) शून्य दोष उत्पाद को प्राप्त करना
- (IV) निवारक समस्या प्रबंधन जिससे इसकी पुनरावृत्ति न हो

नीचे दिए गए विकल्पों में से सही उत्तर का चयन कीजिए :

- (1) (A)-(I), (B)-(III), (C)-(II), (D)-(IV)
- (2) (A)-(III), (B)-(IV), (C)-(I), (D)-(II)
- (3) (A)-(IV), (B)-(II), (C)-(III), (D)-(I)
- (4) (A)-(II), (B)-(IV), (C)-(I), (D)-(III)

Options :

212807128797. 1

212807128798. 2

212807128799. 3

212807128800. 4

Question Number : 771 Question Id : 21280732201 Question Type : MCQ Option Shuffling : No Is Question Mandatory : No Calculator : None
Response Time : N.A Think Time : N.A Minimum Instruction Time : 0

Correct Marks : 5 Wrong Marks : 1

Question Key Details :

Key	Value
Comprehension	MCQ

At which stage the process of dyeing is most commonly done ?

- (1) Fiber
- (2) Yarn
- (3) Fabric
- (4) Hank

Options :

212807128801. 1

212807128802. 2

212807128803. 3

212807128804. 4

Question Number : 771 Question Id : 21280732201 Question Type : MCQ Option Shuffling : No Is Question Mandatory : No Calculator : None
Response Time : N.A Think Time : N.A Minimum Instruction Time : 0

Correct Marks : 5 Wrong Marks : 1

Question Key Details :

Key	Value
Comprehension	MCQ

रंगई की प्रक्रिया सर्वाधिक सामान्य रूप से किस चरण में किया जाता है?

- (1) रेशा
- (2) धागा
- (3) कपड़ा
- (4) लच्छी

Options :

212807128801. 1
212807128802. 2
212807128803. 3
212807128804. 4

Question Number : 772 Question Id : 21280732202 Question Type : MCQ Option Shuffling : No Is Question Mandatory : No Calculator : None
Response Time : N.A Think Time : N.A Minimum Instruction Time : 0

Correct Marks : 5 Wrong Marks : 1

Question Key Details :

Key	Value
Comprehension	MCQ

Choose the correct combination of Elements of Design.

- (A) Texture
- (B) Colour
- (C) Balance
- (D) Form
- (E) Line

Choose the correct answer from the options given below :

- (1) (B), (C), (D), (E) Only
- (2) (A), (C), (D), (E) Only
- (3) (A), (B), (D), (E) Only
- (4) (B), (C), (D), (E) Only

Options :

212807128805. 1
212807128806. 2
212807128807. 3
212807128808. 4

Question Number : 772 Question Id : 21280732202 Question Type : MCQ Option Shuffling : No Is Question Mandatory : No Calculator : None
Response Time : N.A Think Time : N.A Minimum Instruction Time : 0

Correct Marks : 5 Wrong Marks : 1

Question Key Details :

Key	Value
Comprehension	MCQ

डिजाइन के तत्वों के सही सुमेल का चयन कीजिए।

- (A) बनावट
- (B) रंग
- (C) संतुलन
- (D) आकार/स्वरूप
- (E) रेखा

नीचे दिए गए विकल्पों में से सही उत्तर का चयन कीजिए :

- (1) केवल (B), (C), (D), (E)
- (2) केवल (A), (C), (D), (E)
- (3) केवल (A), (B), (D), (E)
- (4) केवल (B), (C), (D), (E)

Options :

- 212807128805. 1
- 212807128806. 2
- 212807128807. 3
- 212807128808. 4

Question Number : 773 Question Id : 21280732203 Question Type : MCQ Option Shuffling : No Is Question Mandatory : No Calculator : None Response Time : N.A Think Time : N.A Minimum Instruction Time : 0

Correct Marks : 5 Wrong Marks : 1

Question Key Details :

Key	Value
Comprehension	MCQ

Which of the following does not ensure the quality of a product ?

- (1) Knowledge of soft skills.
- (2) Inspection of product at various stages.
- (3) Adopting proper procedure of work
- (4) Training of manpower

Options :

- 212807128809. 1
- 212807128810. 2
- 212807128811. 3
- 212807128812. 4

Question Number : 773 Question Id : 21280732203 Question Type : MCQ Option Shuffling : No Is Question Mandatory : No Calculator : None Response Time : N.A Think Time : N.A Minimum Instruction Time : 0

Correct Marks : 5 Wrong Marks : 1

Question Key Details :

Key	Value
Comprehension	MCQ

निम्नलिखित में से कौन-सा विकल्प उत्पाद की गुणवत्ता को सुनिश्चित नहीं करता है ?

- (1) प्रक्रिया कौशल का ज्ञान
- (2) विविध स्तरों पर उत्पाद की जाँच
- (3) कार्य की उचित कार्यविधि को अपनाना
- (4) मैन पावर का प्रशिक्षण

Options :

- 212807128809. 1

212807128810. 2
212807128811. 3
212807128812. 4

Question Number : 774 Question Id : 21280732204 Question Type : MCQ Option Shuffling : No Is Question Mandatory : No Calculator : None
Response Time : N.A Think Time : N.A Minimum Instruction Time : 0

Correct Marks : 5 Wrong Marks : 1

Question Key Details :

Key	Value
Comprehension	MCQ

Which method of dyeing gives variegated and irregular cloud like effect ?

- (1) Binding
- (2) Marbling
- (3) Sewing
- (4) Folding

Options :

212807128813. 1
212807128814. 2
212807128815. 3
212807128816. 4

Question Number : 774 Question Id : 21280732204 Question Type : MCQ Option Shuffling : No Is Question Mandatory : No Calculator : None
Response Time : N.A Think Time : N.A Minimum Instruction Time : 0

Correct Marks : 5 Wrong Marks : 1

Question Key Details :

Key	Value
Comprehension	MCQ

रंगाई की कौन-सी विधि विविध तथा अनियमित बादल जैसा प्रभाव देता है?

- (1) बंधाई
- (2) मार्बलिंग
- (3) सिलाई
- (4) मोड़ना

Options :

212807128813. 1
212807128814. 2
212807128815. 3
212807128816. 4

Question Number : 775 Question Id : 21280732205 Question Type : MCQ Option Shuffling : No Is Question Mandatory : No Calculator : None
Response Time : N.A Think Time : N.A Minimum Instruction Time : 0

Correct Marks : 5 Wrong Marks : 1

Question Key Details :

Key	Value
Comprehension	MCQ

A strategy that involves dividing a larger market into subsets of consumers having needs and applications is known as _____.

- (1) Behavioural Segmentation
- (2) Geographic Segmentation
- (3) Market Segmentation
- (4) Psychographic Segmentation

Options :

212807128817. 1
212807128818. 2

212807128819. 3
212807128820. 4

Question Number : 775 Question Id : 21280732205 Question Type : MCQ Option Shuffling : No Is Question Mandatory : No Calculator : None
Response Time : N.A Think Time : N.A Minimum Instruction Time : 0
Correct Marks : 5 Wrong Marks : 1

Question Key Details :

Key	Value
Comprehension	MCQ

एक तकनीक जिसमें एक बड़े बाजार को आवश्यकता तथा उपयोग वाले उपभोक्तओं के उपभागों में विभाजित किया जाता है _____ कहा जाता है।

- (1) व्यवहारिक विभाजीकरण
- (2) भौगोलिक विभाजीकरण
- (3) बाजार विभाजीकरण
- (4) मनोवृत्तिपरक विभाजीकरण

Options :

212807128817. 1
212807128818. 2
212807128819. 3
212807128820. 4

Sub-Section Number : 2
Sub-Section Id : 2128072531
Question Shuffling Allowed : No
Is Section Default? : null

Question Number : 776 Question Id : 21280732206 Question Type : MCQ Option Shuffling : No Is Question Mandatory : No Calculator : None
Response Time : N.A Think Time : N.A Minimum Instruction Time : 0
Correct Marks : 5 Wrong Marks : 1

Question Key Details :

Key	Value
Comprehension	Compl

Radio and Television are the most popular, cheapest and convenient mass mediums that can be used for development purposes. Radio and Television programmes are presented in the form of news, interviews, discussions, documentaries, dramas, quiz etc. Based on the popularity of radio as medium of communication. All India Radio has introduced a new concept of 'local radio station'. It is run and managed by local people and the contents are for local use in their local dialect. The local radio station generally supports local programmes of development.

In September 2004, India launched Education Satellite (EDUSAT) which was the first Indian satellite built exclusively to serve the educational sector. EDUSAT is used to meet demand for an interactive satellite based distance education system in India. Today's Television offers a variety of programme through several channels international, national and local levels. Some of the programmes have scope for people to participate in the form of television shows, reality shows, competitions like Kaun Banega Karorpati. Aap ki Adalat, etc. These indicate the scope of education and entertainment to be harnessed together for common good.

All India Radio has introduced a new concept of radio to support the local programmes for development. It is known as :

- (1) Local Radio Station
- (2) Project village chhatera
- (3) Gyanvani
- (4) Prasar Bharti

Options :

212807128821. 1
212807128822. 2
212807128823. 3
212807128824. 4

Question Number : 776 Question Id : 21280732206 Question Type : MCQ Option Shuffling : No Is Question Mandatory : No Calculator : None
Response Time : N.A Think Time : N.A Minimum Instruction Time : 0

Correct Marks : 5 Wrong Marks : 1

Question Key Details :

Key	Value
Comprehension	Comp1

रेडियो तथा टेलीविजन सर्वाधिक लोकप्रिय, सबसे सस्ते तथा सुवर्धजनक जनसंचार माध्यम हैं, जो विकास के प्रयोजन के लिए उपयोग किए जा सकते हैं। रेडियो कार्यक्रम – समाचार, साक्षात्कार, चर्चाएँ, वृत्त चित्रों, नाटक, प्रश्नोत्तरी आदि के रूप में प्रस्तुत किए जाते हैं। समाचार में अल्प समय में अनेक विभिन्न विषयों को सम्मिलित कर लिया जाता है। मानव संचार माध्यम के रूप में रेडियो की लोकप्रियता के कारण, आकाशवाणी ने 'स्थानीय रेडियो स्टेशन की नयी संकल्पना को प्रारंभ किया, जिसमें प्रसारण पत्रकारिता-व्यवसायियों की महत्वपूर्ण भूमिका होती है। थोड़ी-सी लागत से, एक सीमित क्षेत्र में प्रसारण की संभावना सहित एक रेडियो स्टेशन स्थापित किया जा सकता है। यह स्थानीय लोगों द्वारा चलाया और नियंत्रित किया जाता है और इसके विषय उन लोगों की स्थानीय बोली में तथा स्थानीय उपयोग के लिए होते हैं। स्थानीय रेडियो स्टेशन सामान्यतया विकास के स्थानीय कार्यक्रमों को बढ़ावा देते हैं।

सितम्बर 2004 में, भारत ने अपने शिक्षा उपग्रह (एडुसैट) का प्रमोचन किया जो पहला भारतीय उपग्रह था, जिसे केवल शिक्षा के क्षेत्र की सेवा के लिए निर्मित किया गया। इस शिक्षा उपग्रह का उपयोग भारत में उपग्रह-आधारित अन्योन्य क्रियात्मक दूरस्थ शिक्षा पद्धति की माँग को पूरा करने के लिए किया गया। आजकल टेलीविजन अंतर्राष्ट्रीय, राष्ट्रीय तथा स्थानीय स्तरों के अनेक चैनलों द्वारा विविध कार्यक्रमों को प्रस्तुत करता है। इनमें से कुछ कार्यक्रमों में व्यक्तियों को वार्ता कार्यक्रमों, वास्तविक घटना कार्यक्रम (रियलिटी-शो) तथा प्रतियोगिताओं आदि में भाग लेने का अवसर मिलता है। जैसे कौन बनेगा करोड़पति, आपकी अदालत इत्यादि। इससे सूचित होता है कि शिक्षा तथा मनोरंजन के क्षेत्र को कल्याण के लिये नियंत्रित करना चाहिये।

ऑल इंडिया रेडियो ने विकास के लिये स्थानीय कार्यक्रम की सहायता के लिये एक नया उपागम को आरम्भ किया है। यह _____ जाना जाता है :

- (1) स्थानीय रेडियो स्टेशन
- (2) छतेरा गाँव योजना
- (3) ज्ञानवाणी
- (4) प्रसार भारती

Options :

212807128821. 1
212807128822. 2
212807128823. 3
212807128824. 4

Question Number : 777 Question Id : 21280732207 Question Type : MCQ Option Shuffling : No Is Question Mandatory : No Calculator : None
Response Time : N.A Think Time : N.A Minimum Instruction Time : 0

Correct Marks : 5 Wrong Marks : 1

Question Key Details :

Key	Value
Comprehension	Comp1

Radio and Television are the most popular, cheapest and convenient mass mediums that can be used for development purposes. Radio and Television programmes are presented in the form of news, interviews, discussions, documentaries, dramas, quiz etc. Based on the popularity of radio as medium of communication. All India Radio has introduced a new concept of 'local radio station'. It is run and managed by local people and the contents are for local use in their local dialect. The local radio station generally supports local programmes of development.

In September 2004, India launched Education Satellite (EDUSAT) which was the first Indian satellite built exclusively to serve the educational sector. EDUSAT is used to meet demand for an interactive satellite based distance education system in India. Today's Television offers a variety of programme through several channels international, national and local levels. Some of the programmes have scope for people to participate in the form of television shows, reality shows, competitions like Kaun Banega Karorpati. Aap ki Adalat, etc. These indicate the scope of education and entertainment to be harnessed together for common good.

In which year, India launched Education Satellite for educational purpose ?

- (1) July, 2001
- (2) August, 2004
- (3) September, 2004
- (4) January, 2000

Options :

- 212807128825. 1
- 212807128826. 2
- 212807128827. 3
- 212807128828. 4

Question Number : 777 Question Id : 21280732207 Question Type : MCQ Option Shuffling : No Is Question Mandatory : No Calculator : None
Response Time : N.A Think Time : N.A Minimum Instruction Time : 0

Correct Marks : 5 Wrong Marks : 1

Question Key Details :

Key	Value
Comprehension	Comp1

रेडियो तथा टेलीविजन सर्वाधिक लोकप्रिय, सबसे सस्ते तथा सुवर्धजनक जनसंचार माध्यम हैं, जो विकास के प्रयोजन के लिए उपयोग किए जा सकते हैं। रेडियो कार्यक्रम – समाचार, साक्षात्कार, चर्चाएँ, वृत्त चित्रों, नाटक, प्रश्नोत्तरी आदि के रूप में प्रस्तुत किए जाते हैं। समाचार में अल्प समय में अनेक विभिन्न विषयों को सम्मिलित कर लिया जाता है। मानव संचार माध्यम के रूप में रेडियो की लोकप्रियता के कारण, आकाशवाणी ने 'स्थानीय रेडियो स्टेशन की नयी संकल्पना को प्रारंभ किया, जिसमें प्रसारण पत्रकारिता-व्यवसायियों की महत्वपूर्ण भूमिका होती है। थोड़ी-सी लागत से, एक सीमित क्षेत्र में प्रसारण की संभावना सहित एक रेडियो स्टेशन स्थापित किया जा सकता है। यह स्थानीय लोगों द्वारा चलाया और नियंत्रित किया जाता है और इसके विषय उन लोगों की स्थानीय बोली में तथा स्थानीय उपयोग के लिए होते हैं। स्थानीय रेडियो स्टेशन सामान्यतया विकास के स्थानीय कार्यक्रमों को बढ़ावा देते हैं।

सितम्बर 2004 में, भारत ने अपने शिक्षा उपग्रह (एडुसैट) का प्रमोचन किया जो पहला भारतीय उपग्रह था, जिसे केवल शिक्षा के क्षेत्र की सेवा के लिए निर्मित किया गया। इस शिक्षा उपग्रह का उपयोग भारत में उपग्रह-आधारित अन्योन्य क्रियात्मक दूरस्थ शिक्षा पद्धति की माँग को पूरा करने के लिए किया गया। आजकल टेलीविजन अंतर्राष्ट्रीय, राष्ट्रीय तथा स्थानीय स्तरों के अनेक चैनलों द्वारा विविध कार्यक्रमों को प्रस्तुत करता है। इनमें से कुछ कार्यक्रमों में व्यक्तियों को वार्ता कार्यक्रमों, वास्तविक घटना कार्यक्रम (रियलिटी-शो) तथा प्रतियोगिताओं आदि में भाग लेने का अवसर मिलता है। जैसे कौन बनेगा करोड़पति, आपकी अदालत इत्यादि। इससे सूचित होता है कि शिक्षा तथा मनोरंजन के क्षेत्र को कल्याण के लिये नियंत्रित करना चाहिये।

शैक्षिक उद्देश्य के लिये भारत ने किस वर्ष में शैक्षिक उपग्रह का प्रक्षेपण किया ?

- (1) जुलाई, 2001
- (2) अगस्त, 2004
- (3) सितम्बर, 2004
- (4) जनवरी, 2000

Options :

212807128825. 1
 212807128826. 2
 212807128827. 3
 212807128828. 4

Question Number : 778 Question Id : 21280732208 Question Type : MCQ Option Shuffling : No Is Question Mandatory : No Calculator : None
 Response Time : N.A Think Time : N.A Minimum Instruction Time : 0

Correct Marks : 5 Wrong Marks : 1

Question Key Details :

Key	Value
Comprehension	Comp1

Radio and Television are the most popular, cheapest and convenient mass mediums that can be used for development purposes. Radio and Television programmes are presented in the form of news, interviews, discussions, documentaries, dramas, quiz etc. Based on the popularity of radio as medium of communication. All India Radio has introduced a new concept of 'local radio station'. It is run and managed by local people and the contents are for local use in their local dialect. The local radio station generally supports local programmes of development.

In September 2004, India launched Education Satellite (EDUSAT) which was the first Indian satellite built exclusively to serve the educational sector. EDUSAT is used to meet demand for an interactive satellite based distance education system in India. Today's Television offers a variety of programme through several channels international, national and local levels. Some of the programmes have scope for people to participate in the form of television shows, reality shows, competitions like Kaun Banega Karorpati. Aap ki Adalat, etc. These indicate the scope of education and entertainment to be harnessed together for common good.

EDUSAT is used to meet the demand for an interactive satellite based _____ in India.

- (1) Formal Education system
- (2) Distance Education system
- (3) Adult Education system
- (4) Non-Formal Education system

Options :

212807128829. 1

212807128830. 2

212807128831. 3

212807128832. 4

Question Number : 778 Question Id : 21280732208 Question Type : MCQ Option Shuffling : No Is Question Mandatory : No Calculator : None
Response Time : N.A Think Time : N.A Minimum Instruction Time : 0

Correct Marks : 5 Wrong Marks : 1

Question Key Details :

Key	Value
Comprehension	Comp1

रेडियो तथा टेलीविजन सर्वाधिक लोकप्रिय, सबसे सस्ते तथा सुवर्धजनक जनसंचार माध्यम हैं, जो विकास के प्रयोजन के लिए उपयोग किए जा सकते हैं। रेडियो कार्यक्रम – समाचार, साक्षात्कार, चर्चाएँ, वृत्त चित्रों, नाटक, प्रश्नोत्तरी आदि के रूप में प्रस्तुत किए जाते हैं। समाचार में अल्प समय में अनेक विभिन्न विषयों को सम्मिलित कर लिया जाता है। मानव संचार माध्यम के रूप में रेडियो की लोकप्रियता के कारण, आकाशवाणी ने 'स्थानीय रेडियो स्टेशन की नयी संकल्पना को प्रारंभ किया, जिसमें प्रसारण पत्रकारिता-व्यवसायियों की महत्वपूर्ण भूमिका होती है। थोड़ी-सी लागत से, एक सीमित क्षेत्र में प्रसारण की संभावना सहित एक रेडियो स्टेशन स्थापित किया जा सकता है। यह स्थानीय लोगों द्वारा चलाया और नियंत्रित किया जाता है और इसके विषय उन लोगों की स्थानीय बोली में तथा स्थानीय उपयोग के लिए होते हैं। स्थानीय रेडियो स्टेशन सामान्यतया विकास के स्थानीय कार्यक्रमों को बढ़ावा देते हैं।

सितम्बर 2004 में, भारत ने अपने शिक्षा उपग्रह (एडुसैट) का प्रमोचन किया जो पहला भारतीय उपग्रह था, जिसे केवल शिक्षा के क्षेत्र की सेवा के लिए निर्मित किया गया। इस शिक्षा उपग्रह का उपयोग भारत में उपग्रह-आधारित अन्योन्य क्रियात्मक दूरस्थ शिक्षा पद्धति की माँग को पूरा करने के लिए किया गया। आजकल टेलीविजन अंतर्राष्ट्रीय, राष्ट्रीय तथा स्थानीय स्तरों के अनेक चैनलों द्वारा विविध कार्यक्रमों को प्रस्तुत करता है। इनमें से कुछ कार्यक्रमों में व्यक्तियों को वार्ता कार्यक्रमों, वास्तविक घटना कार्यक्रम (रियलिटी-शो) तथा प्रतियोगिताओं आदि में भाग लेने का अवसर मिलता है। जैसे कौन बनेगा करोड़पति, आपकी अदालत इत्यादि। इससे सूचित होता है कि शिक्षा तथा मनोरंजन के क्षेत्र को कल्याण के लिये नियंत्रित करना चाहिये।

भारत में _____ पर आधारित आवश्यकताओं की पूर्ति करने के लिये एक अर्न्तक्रियात्मक उपग्रह एडुसैट (EDUSAT) का प्रयोग किया गया।

- (1) औपचारिक शिक्षा प्रणाली
- (2) दूरस्थ शैक्षिक प्रणाली
- (3) प्रौढ़ शैक्षिक प्रणाली
- (4) गैर औपचारिक शिक्षा प्रणाली

Options :

212807128829. 1
 212807128830. 2
 212807128831. 3
 212807128832. 4

Question Number : 779 Question Id : 21280732209 Question Type : MCQ Option Shuffling : No Is Question Mandatory : No Calculator : None
 Response Time : N.A Think Time : N.A Minimum Instruction Time : 0

Correct Marks : 5 Wrong Marks : 1

Question Key Details :

Key	Value
Comprehension	Comp1

Radio and Television are the most popular, cheapest and convenient mass mediums that can be used for development purposes. Radio and Television programmes are presented in the form of news, interviews, discussions, documentaries, dramas, quiz etc. Based on the popularity of radio as medium of communication. All India Radio has introduced a new concept of 'local radio station'. It is run and managed by local people and the contents are for local use in their local dialect. The local radio station generally supports local programmes of development.

In September 2004, India launched Education Satellite (EDUSAT) which was the first Indian satellite built exclusively to serve the educational sector. EDUSAT is used to meet demand for an interactive satellite based distance education system in India. Today's Television offers a variety of programme through several channels international, national and local levels. Some of the programmes have scope for people to participate in the form of television shows, reality shows, competitions like Kaun Banega Karorpati. Aap ki Adalat, etc. These indicate the scope of education and entertainment to be harnessed together for common good.

The most popular, cheapest and convenient mass medium is :

- (1) Radio and Television
- (2) Internet (Social media)
- (3) Newspaper
- (4) Magazines

Options :

212807128833. 1

212807128834. 2

212807128835. 3

212807128836. 4

Question Number : 779 Question Id : 21280732209 Question Type : MCQ Option Shuffling : No Is Question Mandatory : No Calculator : None
Response Time : N.A Think Time : N.A Minimum Instruction Time : 0

Correct Marks : 5 Wrong Marks : 1

Question Key Details :

Key	Value
Comprehension	Comp1

रेडियो तथा टेलीविजन सर्वाधिक लोकप्रिय, सबसे सस्ते तथा सुविधाजनक जनसंचार माध्यम हैं, जो विकास के प्रयोजन के लिए उपयोग किए जा सकते हैं। रेडियो कार्यक्रम – समाचार, साक्षात्कार, चर्चाएँ, वृत्त चित्रों, नाटक, प्रश्नोत्तरी आदि के रूप में प्रस्तुत किए जाते हैं। समाचार में अल्प समय में अनेक विभिन्न विषयों को सम्मिलित कर लिया जाता है। मानव संचार माध्यम के रूप में रेडियो की लोकप्रियता के कारण, आकाशवाणी ने 'स्थानीय रेडियो स्टेशन की नयी संकल्पना को प्रारंभ किया, जिसमें प्रसारण पत्रकारिता-व्यवसायियों की महत्वपूर्ण भूमिका होती है। थोड़ी-सी लागत से, एक सीमित क्षेत्र में प्रसारण की संभावना सहित एक रेडियो स्टेशन स्थापित किया जा सकता है। यह स्थानीय लोगों द्वारा चलाया और नियंत्रित किया जाता है और इसके विषय उन लोगों की स्थानीय बोली में तथा स्थानीय उपयोग के लिए होते हैं। स्थानीय रेडियो स्टेशन सामान्यतया विकास के स्थानीय कार्यक्रमों को बढ़ावा देते हैं।

सितम्बर 2004 में, भारत ने अपने शिक्षा उपग्रह (एडुसैट) का प्रमोचन किया जो पहला भारतीय उपग्रह था, जिसे केवल शिक्षा के क्षेत्र की सेवा के लिए निर्मित किया गया। इस शिक्षा उपग्रह का उपयोग भारत में उपग्रह-आधारित अन्योन्य क्रियात्मक दूरस्थ शिक्षा पद्धति की माँग को पूरा करने के लिए किया गया। आजकल टेलीविजन अंतर्राष्ट्रीय, राष्ट्रीय तथा स्थानीय स्तरों के अनेक चैनलों द्वारा विविध कार्यक्रमों को प्रस्तुत करता है। इनमें से कुछ कार्यक्रमों में व्यक्तियों को वार्ता कार्यक्रमों, वास्तविक घटना कार्यक्रम (रियलिटी-शो) तथा प्रतियोगिताओं आदि में भाग लेने का अवसर मिलता है। जैसे कौन बनेगा करोड़पति, आपकी अदालत इत्यादि। इससे सूचित होता है कि शिक्षा तथा मनोरंजन के क्षेत्र को कल्याण के लिये नियंत्रित करना चाहिये।

सर्वाधिक लोकप्रिय सस्ता तथा सुविधाजनक जन संचार माध्यम है :

- (1) रेडियो तथा टेलीविजन
- (2) इंटरनेट (सोशल मीडिया)
- (3) समाचार पत्र
- (4) पत्रिकाएं

Options :

212807128833. 1
 212807128834. 2
 212807128835. 3
 212807128836. 4

Question Number : 780 Question Id : 21280732210 Question Type : MCQ Option Shuffling : No Is Question Mandatory : No Calculator : None
 Response Time : N.A Think Time : N.A Minimum Instruction Time : 0

Correct Marks : 5 Wrong Marks : 1

Question Key Details :

Key	Value
Comprehension	Comp1

Radio and Television are the most popular, cheapest and convenient mass mediums that can be used for development purposes. Radio and Television programmes are presented in the form of news, interviews, discussions, documentaries, dramas, quiz etc. Based on the popularity of radio as medium of communication. All India Radio has introduced a new concept of 'local radio station'. It is run and managed by local people and the contents are for local use in their local dialect. The local radio station generally supports local programmes of development.

In September 2004, India launched Education Satellite (EDUSAT) which was the first Indian satellite built exclusively to serve the educational sector. EDUSAT is used to meet demand for an interactive satellite based distance education system in India. Today's Television offers a variety of programme through several channels international, national and local levels. Some of the programmes have scope for people to participate in the form of television shows, reality shows, competitions like Kaun Banega Karorpati. Aap ki Adalat, etc. These indicate the scope of education and entertainment to be harnessed together for common good.

Which programme offers the opportunity to common people to participate and win prizes ?

- (1) Laughter show
- (2) Kaun Banega Karorpati
- (3) Aap ki adalat
- (4) Kyunki Jeena isi ka naam hai

Options :

212807128837. 1

212807128838. 2

212807128839. 3

212807128840. 4

Question Number : 780 Question Id : 21280732210 Question Type : MCQ Option Shuffling : No Is Question Mandatory : No Calculator : None
Response Time : N.A Think Time : N.A Minimum Instruction Time : 0

Correct Marks : 5 Wrong Marks : 1

Question Key Details :

Key	Value
Comprehension	Comp1

रेडियो तथा टेलीविजन सर्वाधिक लोकप्रिय, सबसे सस्ते तथा सुवर्धजनक जनसंचार माध्यम हैं, जो विकास के प्रयोजन के लिए उपयोग किए जा सकते हैं। रेडियो कार्यक्रम – समाचार, साक्षात्कार, चर्चाएँ, वृत्त चित्रों, नाटक, प्रश्नोत्तरी आदि के रूप में प्रस्तुत किए जाते हैं। समाचार में अल्प समय में अनेक विभिन्न विषयों को सम्मिलित कर लिया जाता है। मानव संचार माध्यम के रूप में रेडियो की लोकप्रियता के कारण, आकाशवाणी ने 'स्थानीय रेडियो स्टेशन की नयी संकल्पना को प्रारंभ किया, जिसमें प्रसारण पत्रकारिता-व्यवसायियों की महत्वपूर्ण भूमिका होती है। थोड़ी-सी लागत से, एक सीमित क्षेत्र में प्रसारण की संभावना सहित एक रेडियो स्टेशन स्थापित किया जा सकता है। यह स्थानीय लोगों द्वारा चलाया और नियंत्रित किया जाता है और इसके विषय उन लोगों की स्थानीय बोली में तथा स्थानीय उपयोग के लिए होते हैं। स्थानीय रेडियो स्टेशन सामान्यतया विकास के स्थानीय कार्यक्रमों को बढ़ावा देते हैं।

सितम्बर 2004 में, भारत ने अपने शिक्षा उपग्रह (एडुसैट) का प्रमोचन किया जो पहला भारतीय उपग्रह था, जिसे केवल शिक्षा के क्षेत्र की सेवा के लिए निर्मित किया गया। इस शिक्षा उपग्रह का उपयोग भारत में उपग्रह-आधारित अन्योन्य क्रियात्मक दूरस्थ शिक्षा पद्धति की माँग को पूरा करने के लिए किया गया। आजकल टेलीविजन अंतर्राष्ट्रीय, राष्ट्रीय तथा स्थानीय स्तरों के अनेक चैनलों द्वारा विविध कार्यक्रमों को प्रस्तुत करता है। इनमें से कुछ कार्यक्रमों में व्यक्तियों को वार्ता कार्यक्रमों, वास्तविक घटना कार्यक्रम (रियलिटी-शो) तथा प्रतियोगिताओं आदि में भाग लेने का अवसर मिलता है। जैसे कौन बनेगा करोड़पति, आपकी अदालत इत्यादि। इससे सूचित होता है कि शिक्षा तथा मनोरंजन के क्षेत्र को कल्याण के लिये नियंत्रित करना चाहिये।

कौन-सा कार्यक्रम सामान्य व्यक्तियों को भाग लेने तथा पुरस्कार प्राप्त करने के अवसर प्रदान करता है?

- (1) लाप्टर शो
- (2) कौन बनेगा करोड़पति
- (3) आपकी अदालत
- (4) क्योंकि जीना इसी का नाम है

Options :

212807128837. 1
 212807128838. 2
 212807128839. 3
 212807128840. 4

Sub-Section Number : 3
Sub-Section Id : 2128072532
Question Shuffling Allowed : No
Is Section Default? : null

Question Number : 781 Question Id : 21280732211 Question Type : MCQ Option Shuffling : No Is Question Mandatory : No Calculator : None Response Time : N.A Think Time : N.A Minimum Instruction Time : 0

Correct Marks : 5 Wrong Marks : 1

Question Key Details :

Key	Value
Comprehension	Comp2

The term education is familiar to all of us. But, 'Special education' may be new expression for some of you. It is a term that refers to educational provisions for children with special needs, emerging due to physical, mental and emotional challenges. Therefore they have Special Educational Needs (SEN). Thus Special Education means specially designed instruction for children with above mentioned challenges in all settings such as classroom, home, work place, public places, the street and the rehabilitation homes, etc. When children/students with SEN study in general classrooms with their peers, the arrangement is called 'inclusive education'.

The need for special educators and other personal in education programmes, both in social and inclusive education settings, has been increasing, over time, more so after the Persons With Disabilities (PWD) Act, 1995 was passed Sarva Shiksha Abhiyan (SSA) has provision for eight years of education for all children, including those with professionals and personal who work in areas related to disability are regulated by the Rehabilitation Council of India (RCI). This autonomous body facilitates special education training through several approved institutions throughout the country certificate course in 'Early Childhood Special Education Enabling inclusion' from Indira Gandhi National Open University (IGNOU), which qualifies the candidate to be early childhood special inclusive educator.

The education that refers to educational provisions for children with special needs, emerging due to physical, mental and emotional challenges. This is called as :

- (1) ECCE
- (2) Distance education
- (3) Special education
- (4) Skill based education

Options :

- 212807128841. 1
- 212807128842. 2
- 212807128843. 3
- 212807128844. 4

Question Number : 781 Question Id : 21280732211 Question Type : MCQ Option Shuffling : No Is Question Mandatory : No Calculator : None Response Time : N.A Think Time : N.A Minimum Instruction Time : 0

Correct Marks : 5 Wrong Marks : 1

Question Key Details :

Key	Value
Comprehension	Comp2

शिक्षा शब्द से हम सभी परिचित हैं। लेकिन 'विशेष शिक्षा' आप में से कुछ के लिए नयी अभिव्यक्ति हो सकती है। इस शब्द का अर्थ विशेष आवश्यकताओं वाले बच्चों के लिए, शैक्षिक प्रावधानों से है, अर्थात् उन बच्चों के लिए जिनमें एक या एक से अधिक अपंगताएँ होती हैं और जिनकी विभिन्न आवश्यकताएँ होती हैं। ये विशेष शैक्षिक आवश्यकताएँ (एस.ई.एन.) कहलाती हैं। इस प्रकार विशेष शिक्षा का अर्थ सभी व्यवस्थाओं जैसे-कक्षा, घर, सड़क और जहाँ कहीं भी बच्चे जा सकते हैं, वहाँ ऐसे बच्चों के लिए विशेष रूप से रचित निर्देशों से है।

जब विशेष शिक्षा आवश्यकता वाले बच्चे/विद्यार्थी सामान्य कक्षाओं में अपने साथियों के साथ पढ़ते हैं तो यह व्यवस्था "समावेशी शिक्षा" कहलाती है।

बड़ी संख्या में ऐसे विशेषज्ञता वाले व्यक्तियों की माँग के कारण, विशेष शिक्षा में जीविका काफ़ी आकर्षक प्रतीत होती है भारत में निःशक्तता से संबंधित क्षेत्रों में काम करने वाले व्यावसायिकों और कार्मिकों के लिए सभी प्रकार का प्रशिक्षण भारतीय पुर्नवास परिषद् (आर.सी.आई.) द्वारा नियंत्रित होता है। यह स्वायत्त संस्था अनेक मान्यता प्राप्त संस्थानों के द्वारा देश भर में सर्टिफ़िकेट, डिप्लोमा और डिग्री स्तर के पाठ्यक्रमों के पैकेजों में विशेष प्रशिक्षण की सुविधा प्रदान करती है। इस प्रकार विभिन्न स्तरों के प्रशिक्षण द्वारा विशेष शिक्षा के क्षेत्र में आना संभव है। वर्तमान में उपलब्ध कुछ पाठ्यक्रम और सेवा-पूर्व प्रशिक्षण निम्नलिखित हैं - इंदिरा गांधी राष्ट्रीय मुक्त विश्वविद्यालय (इग्नू) की 'समावेशन समर्थित प्रारंभिक बाल्यावस्था विशेष शिक्षा' (अर्लीचाल्डहुड स्पेशल एजुकेशन इनेबलिंग इनक्लूजन) में सर्टिफ़िकेट पाठ्यक्रम, जो अभ्यर्थी को प्रारंभिक बाल्यावस्था विशेष/समावेशी शिक्षक बनने के योग्य बनाता है।

वह शिक्षा जो विशिष्ट आवश्यकताओं वाले बालकों के शैक्षिक प्रावधान से संबंधित है जो शारीरिक, मानसिक तथा भावनात्मक चुनौतियों के कारण उभर रही है _____ कहलाती है।

- (1) ई सी सी ई
- (2) दूरस्थ शिक्षा
- (3) विशिष्ट शिक्षा
- (4) कौशल पर आधारित शिक्षा

Options :

212807128841. 1
212807128842. 2
212807128843. 3
212807128844. 4

Question Number : 782 Question Id : 21280732212 Question Type : MCQ Option Shuffling : No Is Question Mandatory : No Calculator : None Response Time : N.A Think Time : N.A Minimum Instruction Time : 0

Correct Marks : 5 Wrong Marks : 1

Question Key Details :

Key	Value
Comprehension	Comp2

The term education is familiar to all of us. But, 'Special education' may be new expression for some of you. It is a term that refers to educational provisions for children with special needs, emerging due to physical, mental and emotional challenges. Therefore they have Special Educational Needs (SEN). Thus Special Education means specially designed instruction for children with above mentioned challenges in all settings such as classroom, home, work place, public places, the street and the rehabilitation homes, etc. When children/students with SEN study in general classrooms with their peers, the arrangement is called 'inclusive education'.

The need for special educators and other personal in education programmes, both in social and inclusive education settings, has been increasing, over time, more so after the Persons With Disabilities (PWD) Act, 1995 was passed Sarva Shiksha Abhiyan (SSA) has provision for eight years of education for all children, including those with professionals and personal who work in areas related to disability are regulated by the Rehabilitation Council of India (RCI). This autonomous body facilitates special education training through several approved institutions throughout the country certificate course in 'Early Childhood Special Education Enabling inclusion' from Indira Gandhi National Open University (IGNOU), which qualifies the candidate to be early childhood special inclusive educator.

When children/students with special education needs study in general classrooms with their peers, the arrangement is called :

- (1) Inclusive education
- (2) Exclusive education
- (3) Formal education
- (4) Special education

Options :

- 212807128845. 1
- 212807128846. 2
- 212807128847. 3
- 212807128848. 4

Question Number : 782 Question Id : 21280732212 Question Type : MCQ Option Shuffling : No Is Question Mandatory : No Calculator : None
Response Time : N.A Think Time : N.A Minimum Instruction Time : 0

Correct Marks : 5 Wrong Marks : 1

Question Key Details :

Key	Value
Comprehension	Comp2

शिक्षा शब्द से हम सभी परिचित हैं। लेकिन 'विशेष शिक्षा' आप में से कुछ के लिए नयी अभिव्यक्ति हो सकती है। इस शब्द का अर्थ विशेष आवश्यकताओं वाले बच्चों के लिए, शैक्षिक प्रावधानों से है, अर्थात् उन बच्चों के लिए जिनमें एक या एक से अधिक अपंगताएँ होती हैं और जिनकी विभिन्न आवश्यकताएँ होती हैं। ये विशेष शैक्षिक आवश्यकताएँ (एस.ई.एन.) कहलाती हैं। इस प्रकार विशेष शिक्षा का अर्थ सभी व्यवस्थाओं जैसे-कक्षा, घर, सड़क और जहाँ कहीं भी बच्चे जा सकते हैं, वहाँ ऐसे बच्चों के लिए विशेष रूप से रचित निर्देशों से है।

जब विशेष शिक्षा आवश्यकता वाले बच्चे/विद्यार्थी सामान्य कक्षाओं में अपने साथियों के साथ पढ़ते हैं तो यह व्यवस्था "समावेशी शिक्षा" कहलाती है।

बड़ी संख्या में ऐसे विशेषज्ञता वाले व्यक्तियों की माँग के कारण, विशेष शिक्षा में जीविका काफ़ी आकर्षक प्रतीत होती है भारत में निःशक्तता से संबंधित क्षेत्रों में काम करने वाले व्यावसायिकों और कार्मिकों के लिए सभी प्रकार का प्रशिक्षण भारतीय पुर्नवास परिषद् (आर.सी.आई.) द्वारा नियंत्रित होता है। यह स्वायत्त संस्था अनेक मान्यता प्राप्त संस्थानों के द्वारा देश भर में सर्टिफ़िकेट, डिप्लोमा और डिग्री स्तर के पाठ्यक्रमों के पैकेजों में विशेष प्रशिक्षण की सुविधा प्रदान करती है। इस प्रकार विभिन्न स्तरों के प्रशिक्षण द्वारा विशेष शिक्षा के क्षेत्र में आना संभव है। वर्तमान में उपलब्ध कुछ पाठ्यक्रम और सेवा-पूर्व प्रशिक्षण निम्नलिखित हैं - इंदिरा गांधी राष्ट्रीय मुक्त विश्वविद्यालय (इग्नू) की 'समावेशन समर्थित प्रारंभिक बाल्यावस्था विशेष शिक्षा' (अर्लीचाल्डहुड स्पेशल एजुकेशन इनेबलिंग इनक्लूजन) में सर्टिफ़िकेट पाठ्यक्रम, जो अभ्यर्थी को प्रारंभिक बाल्यावस्था विशेष/समावेशी शिक्षक बनने के योग्य बनाता है।

जब विशिष्ट आवश्यकता वाले विद्यार्थी/सामान्य कक्षा में अपने सहपाठियों के साथ अध्ययन करते हैं, इस व्यवस्था को _____ कहा जाता है :

- (1) समावेशी शिक्षा
- (2) अपवर्जक शिक्षा
- (3) औपचारिक शिक्षा
- (4) विशिष्ट शिक्षा

Options :

212807128845. 1
212807128846. 2
212807128847. 3
212807128848. 4

Question Number : 783 Question Id : 21280732213 Question Type : MCQ Option Shuffling : No Is Question Mandatory : No Calculator : None
Response Time : N.A Think Time : N.A Minimum Instruction Time : 0

Correct Marks : 5 Wrong Marks : 1

Question Key Details :

Key	Value
Comprehension	Comp2

The term education is familiar to all of us. But, 'Special education' may be new expression for some of you. It is a term that refers to educational provisions for children with special needs, emerging due to physical, mental and emotional challenges. Therefore they have Special Educational Needs (SEN). Thus Special Education means specially designed instruction for children with above mentioned challenges in all settings such as classroom, home, work place, public places, the street and the rehabilitation homes, etc. When children/students with SEN study in general classrooms with their peers, the arrangement is called 'inclusive education'.

The need for special educators and other personal in education programmes, both in social and inclusive education settings, has been increasing, over time, more so after the Persons With Disabilities (PWD) Act, 1995 was passed Sarva Shiksha Abhiyan (SSA) has provision for eight years of education for all children, including those with professionals and personal who work in areas related to disability are regulated by the Rehabilitation Council of India (RCI). This autonomous body facilitates special education training through several approved institutions throughout the country certificate course in 'Early Childhood Special Education Enabling inclusion' from Indira Gandhi National Open University (IGNOU), which qualifies the candidate to be early childhood special inclusive educator.

In which year the "Persons with Disabilities (PWD) Act" was passed ?

- (1) 1993
- (2) 1995
- (3) 1925
- (4) 1994

Options :

- 212807128849. 1
- 212807128850. 2
- 212807128851. 3
- 212807128852. 4

Question Number : 783 Question Id : 21280732213 Question Type : MCQ Option Shuffling : No Is Question Mandatory : No Calculator : None Response Time : N.A Think Time : N.A Minimum Instruction Time : 0

Correct Marks : 5 Wrong Marks : 1

Question Key Details :

Key	Value
Comprehension	Comp2

शिक्षा शब्द से हम सभी परिचित हैं। लेकिन 'विशेष शिक्षा' आप में से कुछ के लिए नयी अभिव्यक्ति हो सकती है। इस शब्द का अर्थ विशेष आवश्यकताओं वाले बच्चों के लिए, शैक्षिक प्रावधानों से है, अर्थात् उन बच्चों के लिए जिनमें एक या एक से अधिक अपंगताएँ होती हैं और जिनकी विभिन्न आवश्यकताएँ होती हैं। ये विशेष शैक्षिक आवश्यकताएँ (एस.ई.एन.) कहलाती हैं। इस प्रकार विशेष शिक्षा का अर्थ सभी व्यवस्थाओं जैसे-कक्षा, घर, सड़क और जहाँ कहीं भी बच्चे जा सकते हैं, वहाँ ऐसे बच्चों के लिए विशेष रूप से रचित निर्देशों से है।

जब विशेष शिक्षा आवश्यकता वाले बच्चे/विद्यार्थी सामान्य कक्षाओं में अपने साथियों के साथ पढ़ते हैं तो यह व्यवस्था "समावेशी शिक्षा" कहलाती है।

बड़ी संख्या में ऐसे विशेषज्ञता वाले व्यक्तियों की माँग के कारण, विशेष शिक्षा में जीविका काफ़ी आकर्षक प्रतीत होती है। भारत में निःशक्तता से संबंधित क्षेत्रों में काम करने वाले व्यावसायिकों और कार्मिकों के लिए सभी प्रकार का प्रशिक्षण भारतीय पुनर्वास परिषद् (आर.सी.आई.) द्वारा नियंत्रित होता है। यह स्वायत्त संस्था अनेक मान्यता प्राप्त संस्थानों के द्वारा देश भर में सर्टिफ़िकेट, डिप्लोमा और डिग्री स्तर के पाठ्यक्रमों के पैकेजों में विशेष प्रशिक्षण की सुविधा प्रदान करती है। इस प्रकार विभिन्न स्तरों के प्रशिक्षण द्वारा विशेष शिक्षा के क्षेत्र में आना संभव है। वर्तमान में उपलब्ध कुछ पाठ्यक्रम और सेवा-पूर्व प्रशिक्षण निम्नलिखित हैं - इंदिरा गांधी राष्ट्रीय मुक्त विश्वविद्यालय (इग्नू) की 'समावेशन समर्थित प्रारंभिक बाल्यावस्था विशेष शिक्षा' (अर्लीचाल्डहुड स्पेशल एजुकेशन इनेबलिंग इनक्लूजन) में सर्टिफ़िकेट पाठ्यक्रम, जो अभ्यर्थी को प्रारंभिक बाल्यावस्था विशेष/समावेशी शिक्षक बनने के योग्य बनाता है।

किस वर्ष में निःशक्त व्यक्ति की पी.डब्ल्यू.डी. अधिनियम पारित किया गया ?

- (1) 1993
- (2) 1995
- (3) 1925
- (4) 1994

Options :

212807128849. 1
212807128850. 2
212807128851. 3
212807128852. 4

Question Number : 784 Question Id : 21280732214 Question Type : MCQ Option Shuffling : No Is Question Mandatory : No Calculator : None Response Time : N.A Think Time : N.A Minimum Instruction Time : 0

Correct Marks : 5 Wrong Marks : 1

Question Key Details :

Key	Value
Comprehension	Comp2

The term education is familiar to all of us. But, 'Special education' may be new expression for some of you. It is a term that refers to educational provisions for children with special needs, emerging due to physical, mental and emotional challenges. Therefore they have Special Educational Needs (SEN). Thus Special Education means specially designed instruction for children with above mentioned challenges in all settings such as classroom, home, work place, public places, the street and the rehabilitation homes, etc. When children/students with SEN study in general classrooms with their peers, the arrangement is called 'inclusive education'.

The need for special educators and other personal in education programmes, both in social and inclusive education settings, has been increasing, over time, more so after the Persons With Disabilities (PWD) Act, 1995 was passed Sarva Shiksha Abhiyan (SSA) has provision for eight years of education for all children, including those with professionals and personal who work in areas related to disability are regulated by the Rehabilitation Council of Indra (RCI). This autonomous body facilitates special education training through several approved institutions throughout the country certificate course in 'Early Childhood Special Education Enabling inclusion' from Indira Gandhi National Open University (IGNOU), which qualifies the candrdate to be early childhood special inclusive educator.

All forms of training for professional and personals who work in areas related to drsability are regulated by :

- (1) Persons with Disabilities (PWD) Act
- (2) World Health Organisation (WHO)
- (3) Special Education Needs (SEN)
- (4) Rehabilitation Council of Indra (RCI)

Options :

- 212807128853. 1
- 212807128854. 2
- 212807128855. 3
- 212807128856. 4

Question Number : 784 Question Id : 21280732214 Question Type : MCQ Option Shuffling : No Is Question Mandatory : No Calculator : None
Response Time : N.A Think Time : N.A Minimum Instruction Time : 0

Correct Marks : 5 Wrong Marks : 1

Question Key Details :

Key	Value
Comprehension	Comp2

शिक्षा शब्द से हम सभी परिचित हैं। लेकिन 'विशेष शिक्षा' आप में से कुछ के लिए नयी अभिव्यक्ति हो सकती है। इस शब्द का अर्थ विशेष आवश्यकताओं वाले बच्चों के लिए, शैक्षिक प्रावधानों से है, अर्थात् उन बच्चों के लिए जिनमें एक या एक से अधिक अपंगताएँ होती हैं और जिनकी विभिन्न आवश्यकताएँ होती हैं। ये विशेष शैक्षिक आवश्यकताएँ (एस.ई.एन.) कहलाती हैं। इस प्रकार विशेष शिक्षा का अर्थ सभी व्यवस्थाओं जैसे-कक्षा, घर, सड़क और जहाँ कहीं भी बच्चे जा सकते हैं, वहाँ ऐसे बच्चों के लिए विशेष रूप से रचित निर्देशों से है।

जब विशेष शिक्षा आवश्यकता वाले बच्चे/विद्यार्थी सामान्य कक्षाओं में अपने साथियों के साथ पढ़ते हैं तो यह व्यवस्था "समावेशी शिक्षा" कहलाती है।

बड़ी संख्या में ऐसे विशेषज्ञता वाले व्यक्तियों की माँग के कारण, विशेष शिक्षा में जीविका काफ़ी आकर्षक प्रतीत होती है भारत में निःशक्तता से संबंधित क्षेत्रों में काम करने वाले व्यावसायिकों और कार्मिकों के लिए सभी प्रकार का प्रशिक्षण भारतीय पुनर्वास परिषद् (आर.सी.आई.) द्वारा नियंत्रित होता है। यह स्वायत्त संस्था अनेक मान्यता प्राप्त संस्थानों के द्वारा देश भर में सर्टिफ़िकेट, डिप्लोमा और डिग्री स्तर के पाठ्यक्रमों के पैकेजों में विशेष प्रशिक्षण की सुविधा प्रदान करती है। इस प्रकार विभिन्न स्तरों के प्रशिक्षण द्वारा विशेष शिक्षा के क्षेत्र में आना संभव है। वर्तमान में उपलब्ध कुछ पाठ्यक्रम और सेवा-पूर्व प्रशिक्षण निम्नलिखित हैं - इंदिरा गांधी राष्ट्रीय मुक्त विश्वविद्यालय (इग्नू) की 'समावेशन समर्थित प्रारंभिक बाल्यावस्था विशेष शिक्षा' (अर्लीचाल्डहुड स्पेशल एजुकेशन इनेबलिंग इनक्लूजन) में सर्टिफ़िकेट पाठ्यक्रम, जो अभ्यर्थी को प्रारंभिक बाल्यावस्था विशेष/समावेशी शिक्षक बनने के योग्य बनाता है।

सभी प्रकार के व्यावसायिक तथा व्यक्तिगत प्रशिक्षण अधिकारी जो दिव्यांगत से संबंधित _____ द्वारा नियमित है :

- (1) निःशक्त व्यक्ति अधिनियम (PWD)
- (2) विश्व स्वास्थ्य संगठन (WHO)
- (3) विशिष्ट शिक्षा आवश्यकतायें (SEN)
- (4) प्रतिस्थापन काउंसिल ऑफ़ इंडिया (RCI)

Options :

212807128853. 1
 212807128854. 2
 212807128855. 3
 212807128856. 4

Question Number : 785 Question Id : 21280732215 Question Type : MCQ Option Shuffling : No Is Question Mandatory : No Calculator : None
 Response Time : N.A Think Time : N.A Minimum Instruction Time : 0

Correct Marks : 5 Wrong Marks : 1

Question Key Details :

Key	Value
Comprehension	Comp2

The term education is familiar to all of us. But, 'Special education' may be new expression for some of you. It is a term that refers to educational provisions for children with special needs, emerging due to physical, mental and emotional challenges. Therefore they have Special Educational Needs (SEN). Thus Special Education means specially designed instruction for children with above mentioned challenges in all settings such as classroom, home, work place, public places, the street and the rehabilitation homes, etc. When children/students with SEN study in general classrooms with their peers, the arrangement is called 'inclusive education'.

The need for special educators and other personal in education programmes, both in social and inclusive education settings, has been increasing, over time, more so after the Persons With Disabilities (PWD) Act, 1995 was passed Sarva Shiksha Abhiyan (SSA) has provision for eight years of education for all children, including those with professionals and personal who work in areas related to disability are regulated by the Rehabilitation Council of India (RCI). This autonomous body facilitates special education training through several approved institutions throughout the country certificate course in 'Early Childhood Special Education Enabling inclusion' from Indira Gandhi National Open University (IGNOU), which qualifies the candidate to be early childhood special inclusive educator.

Indira Gandhi National Open University (IGNOU) offers a certificate Programme. Which qualifies the candidate should have to be an early childhood specialist ?

- (1) Early Childhood Care and Education
- (2) Early Childhood Special Education Enabling Inclusive
- (3) Early Childhood Care and Special Education
- (4) Early Childhood Special Education

Options :

- 212807128857. 1
- 212807128858. 2
- 212807128859. 3
- 212807128860. 4

Question Number : 785 Question Id : 21280732215 Question Type : MCQ Option Shuffling : No Is Question Mandatory : No Calculator : None
Response Time : N.A Think Time : N.A Minimum Instruction Time : 0

Correct Marks : 5 Wrong Marks : 1

Question Key Details :

Key	Value
Comprehension	Comp2

शिक्षा शब्द से हम सभी परिचित हैं। लेकिन 'विशेष शिक्षा' आप में से कुछ के लिए नयी अभिव्यक्ति हो सकती है। इस शब्द का अर्थ विशेष आवश्यकताओं वाले बच्चों के लिए, शैक्षिक प्रावधानों से है, अर्थात् उन बच्चों के लिए जिनमें एक या एक से अधिक अपंगताएँ होती हैं और जिनकी विभिन्न आवश्यकताएँ होती हैं। ये विशेष शैक्षिक आवश्यकताएँ (एस.ई.एन.) कहलाती हैं। इस प्रकार विशेष शिक्षा का अर्थ सभी व्यवस्थाओं जैसे-कक्षा, घर, सड़क और जहाँ कहीं भी बच्चे जा सकते हैं, वहाँ ऐसे बच्चों के लिए विशेष रूप से रचित निर्देशों से है।

जब विशेष शिक्षा आवश्यकता वाले बच्चे/विद्यार्थी सामान्य कक्षाओं में अपने साथियों के साथ पढ़ते हैं तो यह व्यवस्था "समावेशी शिक्षा" कहलाती है।

बड़ी संख्या में ऐसे विशेषज्ञता वाले व्यक्तियों की माँग के कारण, विशेष शिक्षा में जीविका काफ़ी आकर्षक प्रतीत होती है भारत में निःशक्तता से संबंधित क्षेत्रों में काम करने वाले व्यावसायिकों और कार्मिकों के लिए सभी प्रकार का प्रशिक्षण भारतीय पुनर्वास परिषद् (आर.सी.आई.) द्वारा नियंत्रित होता है। यह स्वायत्त संस्था अनेक मान्यता प्राप्त संस्थानों के द्वारा देश भर में सर्टिफिकेट, डिप्लोमा और डिग्री स्तर के पाठ्यक्रमों के पैकेजों में विशेष प्रशिक्षण की सुविधा प्रदान करती है। इस प्रकार विभिन्न स्तरों के प्रशिक्षण द्वारा विशेष शिक्षा के क्षेत्र में आना संभव है। वर्तमान में उपलब्ध कुछ पाठ्यक्रम और सेवा-पूर्व प्रशिक्षण निम्नलिखित हैं - इंदिरा गांधी राष्ट्रीय मुक्त विश्वविद्यालय (इग्नू) की 'समावेशन समर्थित प्रारंभिक बाल्यावस्था विशेष शिक्षा' (अर्लीचाल्डहुड स्पेशल एजुकेशन इनेबलिंग इनक्लूजन) में सर्टिफिकेट पाठ्यक्रम, जो अभ्यर्थी को प्रारंभिक बाल्यावस्था विशेष/समावेशी शिक्षक बनने के योग्य बनाता है।

इंदिरा गांधी राष्ट्रीय मुक्त विश्वविद्यालय (IGNOU) एक सर्टिफिकेट कार्यक्रम प्रदान करता है। एक आरम्भिक बाल्यावस्था विशेषज्ञ के लिये एक प्रतिभागी में कौन-सी विशेषतायें होती हैं?

- (1) आरम्भिक बाल्यावस्था देखभाल तथा शिक्षा
- (2) आरम्भिक बाल्यावस्था विशिष्ट शिक्षा जो समावेश के योग्य बनाती है
- (3) आरम्भिक बाल्यावस्था देखभाल तथा विशिष्ट शिक्षा
- (4) आरम्भिक बाल्यावस्था विशिष्ट शिक्षा

Options :

212807128857. 1
212807128858. 2
212807128859. 3
212807128860. 4

Legal Studies

Group Number :	22
Group Id :	212807746
Group Maximum Duration :	45
Group Minimum Duration :	45
Show Attended Group? :	No
Edit Attended Group? :	No
Break time :	0
Group Marks :	200
Is this Group for Examiner? :	No
Examiner permission :	Can View
Show Progress Bar? :	No

Legal Studies

Section Id :	212807878
Section Number :	1
Section type :	Online
Mandatory or Optional :	Mandatory

Number of Questions : 50
Number of Questions to be attempted : 40
Section Marks : 200
Enable Mark as Answered Mark for Review and Clear Response : Yes
Maximum Instruction Time : 0
Sub-Section Number : 1
Sub-Section Id : 2128072533
Question Shuffling Allowed : Yes
Is Section Default? : null

Question Number : 786 Question Id : 21280732266 Question Type : MCQ Option Shuffling : No Is Question Mandatory : No Calculator : None
Response Time : N.A Think Time : N.A Minimum Instruction Time : 0

Correct Marks : 5 Wrong Marks : 1

Question Key Details :

Key	Value
Comprehension	MCQ

Identify the features of Judicial Review.

- (A) It determines whether if the act is incompatible with the Constitution.
- (B) The power of judicial review is restricted to district courts only
- (C) It allows judiciary to safeguard the checks and balances and to ensure the separation of powers
- (D) It helps to uphold the Constitutional principles and values
- (E) It is authorised to nullify the legislations of the parliament

Choose the correct answer from the options given below :

- (1) (A), (B), (C) only
- (2) (A), (C), (D) only
- (3) (A), (B), (C), (D), (E) only
- (4) (A), (E), (B), (D) only

Options :

212807129061. 1
212807129062. 2
212807129063. 3
212807129064. 4

Question Number : 786 Question Id : 21280732266 Question Type : MCQ Option Shuffling : No Is Question Mandatory : No Calculator : None
Response Time : N.A Think Time : N.A Minimum Instruction Time : 0

Correct Marks : 5 Wrong Marks : 1

Question Key Details :

Key	Value
Comprehension	MCQ

न्यायिक समीक्षा की विशेषताएं पहचानें।

- (A) यह निर्धारित करता है कि क्या कोई कृत्य संविधान से असंगत है
- (B) न्यायिक समीक्षा की शक्ति केवल जिला न्यायालय तक सीमित है
- (C) यह न्यायालय को संतुलन और प्रति संतुलन बनाए रखने तथा शक्ति का विभाजन सुनिश्चित करने में सहायता करती है
- (D) यह संवैधानिक सिद्धांतों और मूल्यों को बनाए रखने में सहायता करती है
- (E) यह संसद के विधान को विधिशून्य करने का प्राधिकार है

नीचे दिए गए विकल्पों में से सही उत्तर का चयन कीजिए :

- (1) केवल (A), (B), (C)
- (2) केवल (A), (C), (D)
- (3) केवल (A), (B), (C), (D), (E)
- (4) केवल (A), (E), (B), (D)

Options :

- 212807129061. 1
- 212807129062. 2
- 212807129063. 3
- 212807129064. 4

Question Number : 787 Question Id : 21280732267 Question Type : MCQ Option Shuffling : No Is Question Mandatory : No Calculator : None Response Time : N.A Think Time : N.A Minimum Instruction Time : 0

Correct Marks : 5 Wrong Marks : 1

Question Key Details :

Key	Value
Comprehension	MCQ

What is the meaning of the Latin phrase 'Audi alterem partum' ?

- (1) Listen to yourself
- (2) Listen to the other side
- (3) Listen to inner self
- (4) Listen to Court

Options :

- 212807129065. 1
- 212807129066. 2
- 212807129067. 3
- 212807129068. 4

Question Number : 787 Question Id : 21280732267 Question Type : MCQ Option Shuffling : No Is Question Mandatory : No Calculator : None Response Time : N.A Think Time : N.A Minimum Instruction Time : 0

Correct Marks : 5 Wrong Marks : 1

Question Key Details :

Key	Value
Comprehension	MCQ

लैटिन शब्द "औडी एल्टरम पारटम" का क्या अर्थ है ?

- (1) स्वयं की सुनें
- (2) अन्य पक्ष की सुनें
- (3) आंतरिक अनुभूति की सुनें
- (4) न्यायालय की सुनें

Options :

212807129065. 1
212807129066. 2
212807129067. 3
212807129068. 4

Question Number : 788 Question Id : 21280732268 Question Type : MCQ Option Shuffling : No Is Question Mandatory : No Calculator : None Response Time : N.A Think Time : N.A Minimum Instruction Time : 0

Correct Marks : 5 Wrong Marks : 1

Question Key Details :

Key	Value
Comprehension	MCQ

The Supreme Court of India came into existence on :

- (1) 26 January 1950
- (2) 28 January 1950
- (3) 26 January 1949
- (4) 26 November 1950

Options :

212807129069. 1
212807129070. 2
212807129071. 3
212807129072. 4

Question Number : 788 Question Id : 21280732268 Question Type : MCQ Option Shuffling : No Is Question Mandatory : No Calculator : None Response Time : N.A Think Time : N.A Minimum Instruction Time : 0

Correct Marks : 5 Wrong Marks : 1

Question Key Details :

Key	Value
Comprehension	MCQ

भारत का उच्चतम न्यायालय कब अस्तित्व में आया ?

- (1) 26 जनवरी 1950
- (2) 28 जनवरी 1950
- (3) 26 जनवरी 1949
- (4) 26 नवंबर 1950

Options :

212807129069. 1
212807129070. 2
212807129071. 3
212807129072. 4

Question Number : 789 Question Id : 21280732269 Question Type : MCQ Option Shuffling : No Is Question Mandatory : No Calculator : None Response Time : N.A Think Time : N.A Minimum Instruction Time : 0

Correct Marks : 5 Wrong Marks : 1

Question Key Details :

Key	Value
Comprehension	MCQ

Appointment of Judges has always been in issue and linked to Judicial Independence. A series of three Judicial decisions helped in the development of the modern collegium system. Which case gave primacy to the Chief Justice of India in the matter of appointment of judges to SC and High Courts ?

- (1) First Judges Case (1981)
- (2) Second Judges Case (1993)
- (3) Third Judges Case (1998)
- (4) Third Judges Case (1999)

Options :

212807129073. 1
212807129074. 2
212807129075. 3
212807129076. 4

Question Number : 789 Question Id : 21280732269 Question Type : MCQ Option Shuffling : No Is Question Mandatory : No Calculator : None
Response Time : N.A Think Time : N.A Minimum Instruction Time : 0

Correct Marks : 5 Wrong Marks : 1

Question Key Details :

Key	Value
Comprehension	MCQ

न्यायाधीशों की नियुक्ति हमेशा विवादित रही है और न्यायिक स्वतंत्रता से जुड़ी है। तीन न्यायिक निर्णयों की श्रृंखला ने आधुनिक कॉलेजियम प्रणाली के विकास में सहायता की है। किस वाद ने उच्चतम न्यायालय और उच्च न्यायालयों में न्यायाधीशों की नियुक्ति के मामले में भारत के प्रधान न्यायाधीश को प्रधानता दी ?

- (1) प्रथम न्यायाधीश वाद (1981)
- (2) द्वितीय न्यायाधीश वाद (1993)
- (3) तृतीय न्यायाधीश वाद (1998)
- (4) तृतीय न्यायाधीश वाद (1999)

Options :

212807129073. 1
212807129074. 2
212807129075. 3
212807129076. 4

Question Number : 790 Question Id : 21280732270 Question Type : MCQ Option Shuffling : No Is Question Mandatory : No Calculator : None
Response Time : N.A Think Time : N.A Minimum Instruction Time : 0

Correct Marks : 5 Wrong Marks : 1

Question Key Details :

Key	Value
Comprehension	MCQ

Which of the following is not amongst the first four High Courts established in India ?

- (1) Madras High Court
- (2) Calcutta High Court
- (3) Patna High Court
- (4) Allahabad High Court

Options :

212807129077. 1
212807129078. 2
212807129079. 3
212807129080. 4

Question Number : 790 Question Id : 21280732270 Question Type : MCQ Option Shuffling : No Is Question Mandatory : No Calculator : None
Response Time : N.A Think Time : N.A Minimum Instruction Time : 0

Correct Marks : 5 Wrong Marks : 1

Question Key Details :

Key	Value
Comprehension	MCQ

निम्नलिखित में से कौन सा भारत में स्थापित प्रथम चार उच्च न्यायालयों में से नहीं है।

- (1) मद्रास उच्च न्यायालय
- (2) कलकत्ता उच्च न्यायालय
- (3) पटना उच्च न्यायालय
- (4) इलाहाबाद उच्च न्यायालय

Options :

212807129077. 1
212807129078. 2
212807129079. 3
212807129080. 4

Question Number : 791 Question Id : 21280732271 Question Type : MCQ Option Shuffling : No Is Question Mandatory : No Calculator : None
Response Time : N.A Think Time : N.A Minimum Instruction Time : 0

Correct Marks : 5 Wrong Marks : 1

Question Key Details :

Key	Value
Comprehension	MCQ

Which of the following writ means :

“To issue directive to a person to vacate an office wrongfully occupied.”

- (1) Habeas Corpus
- (2) Mandamus
- (3) Quo warranto
- (4) Certiorari

Options :

212807129081. 1
212807129082. 2
212807129083. 3
212807129084. 4

Question Number : 791 Question Id : 21280732271 Question Type : MCQ Option Shuffling : No Is Question Mandatory : No Calculator : None
Response Time : N.A Think Time : N.A Minimum Instruction Time : 0

Correct Marks : 5 Wrong Marks : 1

Question Key Details :

Key	Value
Comprehension	MCQ

निम्नलिखित का आशय क्या है :

“किसी व्यक्ति को गलत तरीके/विधि से प्राप्त किए गए कार्यालय को छोड़ने का निर्देश देना”?

- (1) बंदी प्रत्यक्षीकरण
- (2) परमादेश
- (3) अधिकार पृच्छा
- (4) उत्प्रेषण

Options :

212807129081. 1
212807129082. 2
212807129083. 3

Question Number : 792 Question Id : 21280732272 Question Type : MCQ Option Shuffling : No Is Question Mandatory : No Calculator : None
Response Time : N.A Think Time : N.A Minimum Instruction Time : 0

Correct Marks : 5 Wrong Marks : 1

Question Key Details :

Key	Value
Comprehension	MCQ

The White Collar Crimes are :

- (1) Crimes against Property
- (2) Crimes against Human body
- (3) Economic Crimes committed by the people of high social status
- (4) Crimes against white people

Options :

212807129085. 1
212807129086. 2
212807129087. 3
212807129088. 4

Question Number : 792 Question Id : 21280732272 Question Type : MCQ Option Shuffling : No Is Question Mandatory : No Calculator : None
Response Time : N.A Think Time : N.A Minimum Instruction Time : 0

Correct Marks : 5 Wrong Marks : 1

Question Key Details :

Key	Value
Comprehension	MCQ

सफेदपोश अपराध है :

- (1) संपत्ति के विरुद्ध अपराध
- (2) मानव काया के विरुद्ध अपराध
- (3) उच्च सामाजिक स्तर के लोगों द्वारा किए गए आर्थिक अपराध
- (4) सफेद लोगों के विरुद्ध अपराध

Options :

212807129085. 1
212807129086. 2
212807129087. 3
212807129088. 4

Question Number : 793 Question Id : 21280732273 Question Type : MCQ Option Shuffling : No Is Question Mandatory : No Calculator : None
Response Time : N.A Think Time : N.A Minimum Instruction Time : 0

Correct Marks : 5 Wrong Marks : 1

Question Key Details :

Key	Value
Comprehension	MCQ

Which of the following theory deals with 'Righting of balance' ?

- (1) Rehabilitation
- (2) Restoration
- (3) Retribution
- (4) Deterrence

Options :

212807129089. 1
212807129090. 2
212807129091. 3
212807129092. 4

Question Number : 793 Question Id : 21280732273 Question Type : MCQ Option Shuffling : No Is Question Mandatory : No Calculator : None
Response Time : N.A Think Time : N.A Minimum Instruction Time : 0

Correct Marks : 5 Wrong Marks : 1

Question Key Details :

Key	Value
Comprehension	MCQ

निम्नलिखित सिद्धांतों में से कौनसा 'संतुलन को सही करना' संतुलन शुद्धिकरण से संबंधित है ?

- (1) पुनर्वास
- (2) पुनर्स्थापन
- (3) प्रतिशोधन
- (4) निरोधकारी

Options :

212807129089. 1
212807129090. 2
212807129091. 3
212807129092. 4

Question Number : 794 Question Id : 21280732274 Question Type : MCQ Option Shuffling : No Is Question Mandatory : No Calculator : None
Response Time : N.A Think Time : N.A Minimum Instruction Time : 0

Correct Marks : 5 Wrong Marks : 1

Question Key Details :

Key	Value
Comprehension	MCQ

Arrange the stages of a crime in a correct order :

- (A) Commission of Crime (Actus Reus)
- (B) Intention (Mens Rea)
- (C) Preparation
- (D) Attempt

Choose the correct answer from the options given below :

- (1) (A), (B), (C), (D)
- (2) (C), (D), (B), (A)
- (3) (B), (C), (D), (A)
- (4) (A), (D), (C), (B)

Options :

212807129093. 1
212807129094. 2
212807129095. 3
212807129096. 4

Question Number : 794 Question Id : 21280732274 Question Type : MCQ Option Shuffling : No Is Question Mandatory : No Calculator : None
Response Time : N.A Think Time : N.A Minimum Instruction Time : 0

Correct Marks : 5 Wrong Marks : 1

Question Key Details :

Key	Value
Comprehension	MCQ

किसी अपराध के सोपानों को सही क्रम में व्यवस्थित करें :

- (A) अपराध करना (Actus Reus)
- (B) इरादा (Mens Rea)
- (C) तैयारी
- (D) प्रयास

नीचे दिए गए विकल्पों में से सही उत्तर का चयन कीजिए :

- (1) (A), (B), (C), (D)
- (2) (C), (D), (B), (A)
- (3) (B), (C), (D), (A)
- (4) (A), (D), (C), (B)

Options :

- 212807129093. 1
- 212807129094. 2
- 212807129095. 3
- 212807129096. 4

Question Number : 795 Question Id : 21280732275 Question Type : MCQ Option Shuffling : No Is Question Mandatory : No Calculator : None
Response Time : N.A Think Time : N.A Minimum Instruction Time : 0

Correct Marks : 5 Wrong Marks : 1

Question Key Details :

Key	Value
Comprehension	MCQ

Whoever dishonestly intends to take any movable property out of the possession of any person without that person's consent and with that intention moves that property in order to commit such taking is said to commit _____.

- (1) Extortion
- (2) Theft
- (3) Robbery
- (4) Criminal Misappropriation of Property

Options :

- 212807129097. 1
- 212807129098. 2
- 212807129099. 3
- 212807129100. 4

Question Number : 795 Question Id : 21280732275 Question Type : MCQ Option Shuffling : No Is Question Mandatory : No Calculator : None
Response Time : N.A Think Time : N.A Minimum Instruction Time : 0

Correct Marks : 5 Wrong Marks : 1

Question Key Details :

Key	Value
Comprehension	MCQ

कोई भी व्यक्ति जो किसी दूसरे व्यक्ति की सहमति के बिना उस व्यक्ति के अधिकार से किसी चल संपत्ति को बाहर लेता है तथा किसी कृत्य करने की मंशा से उसे अधिकार में लेता है, तो इस प्रकार लिए जाने को कहा जाता है _____.

- (1) वसूली
- (2) चोरी
- (3) लूट
- (4) संपत्ति का आपराधिक गबन

Options :

212807129097. 1
212807129098. 2
212807129099. 3
212807129100. 4

Question Number : 796 Question Id : 21280732276 Question Type : MCQ Option Shuffling : No Is Question Mandatory : No Calculator : None
Response Time : N.A Think Time : N.A Minimum Instruction Time : 0

Correct Marks : 5 Wrong Marks : 1

Question Key Details :

Key	Value
Comprehension	MCQ

Choose the correct statements :

- (A) Admissions are not conclusive, may operate as an estoppel
(B) Admission is always against the person making it
(C) Confession is a statement written/oral which is direct acknowledgement of the guilt in a case
(D) Admission is a statement oral/written which gives inference about the liability of person making admission

Choose the correct answer from the options given below :

- (1) (A), (C), (D) only
(2) (B), and (D) only
(3) (B), (C) and (D) only
(4) (A), (B) only

Options :

212807129101. 1
212807129102. 2
212807129103. 3
212807129104. 4

Question Number : 796 Question Id : 21280732276 Question Type : MCQ Option Shuffling : No Is Question Mandatory : No Calculator : None
Response Time : N.A Think Time : N.A Minimum Instruction Time : 0

Correct Marks : 5 Wrong Marks : 1

Question Key Details :

Key	Value
Comprehension	MCQ

सत्य कथनों का चयन करें :

- (A) स्वीकारोक्तियाँ निष्कर्षात्मक नहीं हैं, सहायक का कार्य कर सकती है
(B) स्वीकारोक्ति हमेशा, इसे देने वाले व्यक्ति के विरुद्ध होती है
(C) अपराध-स्वीकरण एक लिखित/मौखिक कथन है जो मामले में दोषी होने की प्रत्यक्ष स्वीकृति है
(D) स्वीकारोक्ति मौखिक/लिखित कथन है जो स्वीकरण करने वाले व्यक्ति की देनदारी/जिम्मेदारी के बारे में संकेत देता है
- नीचे दिए गए विकल्पों में से सही उत्तर का चयन कीजिए :

- (1) केवल (A), (C), (D)
(2) केवल (B), और (D)
(3) केवल (B), (C) और (D)
(4) केवल (A), (B)

Options :

212807129101. 1

212807129102. 2
212807129103. 3
212807129104. 4

Question Number : 797 Question Id : 21280732277 Question Type : MCQ Option Shuffling : No Is Question Mandatory : No Calculator : None
Response Time : N.A Think Time : N.A Minimum Instruction Time : 0

Correct Marks : 5 Wrong Marks : 1

Question Key Details :

Key	Value
Comprehension	MCQ

The creation of any literary or artistic work, are registered under Intellectual Property Law. Which of the following work qualifies under Copyright Act ?

- (1) Pattern
- (2) Shape
- (3) Script
- (4) Marks

Options :

212807129105. 1
212807129106. 2
212807129107. 3
212807129108. 4

Question Number : 797 Question Id : 21280732277 Question Type : MCQ Option Shuffling : No Is Question Mandatory : No Calculator : None
Response Time : N.A Think Time : N.A Minimum Instruction Time : 0

Correct Marks : 5 Wrong Marks : 1

Question Key Details :

Key	Value
Comprehension	MCQ

किसी साहित्यिक या कलात्मक कार्य के सृजन बौद्धिक संपदा विधि के अंतर्गत पंजीकृत किए जाते हैं। निम्नलिखित में से कौनसे कार्य कॉपीराइट विधि के अंतर्गत अर्हकायोग्य है ?

- (1) पद्धति
- (2) रूपाकार
- (3) स्क्रिप्ट
- (4) चिन्ह

Options :

212807129105. 1
212807129106. 2
212807129107. 3
212807129108. 4

Question Number : 798 Question Id : 21280732278 Question Type : MCQ Option Shuffling : No Is Question Mandatory : No Calculator : None
Response Time : N.A Think Time : N.A Minimum Instruction Time : 0

Correct Marks : 5 Wrong Marks : 1

Question Key Details :

Key	Value
Comprehension	MCQ

Match List - I with List - II.

List - I

- (A) Doctrine of Election
(B) Sale
(C) Exchange
(D) Gift

List - II

- (I) Section 122, TPA
(II) Section 54, TPA
(III) Section 35, TPA
(IV) Section 118, TPA

Choose the correct answer from the options given below :

- (1) (A)-(I), (B)-(III), (C)-(II), (D)-(IV)
(2) (A)-(II), (B)-(IV), (C)-(III), (D)-(I)
(3) (A)-(III), (B)-(II), (C)-(IV), (D)-(I)
(4) (A)-(IV), (B)-(I), (C)-(II), (D)-(III)

Options :

212807129109. 1
212807129110. 2
212807129111. 3
212807129112. 4

Question Number : 798 Question Id : 21280732278 Question Type : MCQ Option Shuffling : No Is Question Mandatory : No Calculator : None
Response Time : N.A Think Time : N.A Minimum Instruction Time : 0

Correct Marks : 5 Wrong Marks : 1

Question Key Details :

Key	Value
Comprehension	MCQ

सूची-I से सूची-II का मिलान कीजिए:

सूची-I

- (A) निर्वाचन का सिद्धांत
(B) विक्रय
(C) विनिमय
(D) उपहार

सूची-II

- (I) धारा 122, टीपीए
(II) धारा 54, टीपीए
(III) धारा 35, टीपीए
(IV) धारा 118, टीपीए

नीचे दिए गए विकल्पों में से सही उत्तर का चयन कीजिए :

- (1) (A)-(I), (B)-(III), (C)-(II), (D)-(IV)
(2) (A)-(II), (B)-(IV), (C)-(III), (D)-(I)
(3) (A)-(III), (B)-(II), (C)-(IV), (D)-(I)
(4) (A)-(IV), (B)-(I), (C)-(II), (D)-(III)

Options :

212807129109. 1
212807129110. 2
212807129111. 3
212807129112. 4

Question Number : 799 Question Id : 21280732279 Question Type : MCQ Option Shuffling : No Is Question Mandatory : No Calculator : None
Response Time : N.A Think Time : N.A Minimum Instruction Time : 0

Correct Marks : 5 Wrong Marks : 1

Question Key Details :

Key	Value
Comprehension	MCQ

Movable property is explained by :

- (1) Sale of Goods Act
- (2) Transfer of Property Act
- (3) Transfer of Lease Act
- (4) Sale of Property Act

Options :

212807129113. 1
212807129114. 2
212807129115. 3
212807129116. 4

Question Number : 799 Question Id : 21280732279 Question Type : MCQ Option Shuffling : No Is Question Mandatory : No Calculator : None
Response Time : N.A Think Time : N.A Minimum Instruction Time : 0

Correct Marks : 5 Wrong Marks : 1

Question Key Details :

Key	Value
Comprehension	MCQ

चल संपत्ति किसके अंतर्गत परिभाषित है ?

- (1) वस्तु विक्रय अधिनियम
- (2) संपत्ति हस्तांतरण अधिनियम
- (3) पट्टा हस्तांतरण अधिनियम
- (4) संपत्ति विक्रय अधिनियम

Options :

212807129113. 1
212807129114. 2
212807129115. 3
212807129116. 4

Question Number : 800 Question Id : 21280732280 Question Type : MCQ Option Shuffling : No Is Question Mandatory : No Calculator : None
Response Time : N.A Think Time : N.A Minimum Instruction Time : 0

Correct Marks : 5 Wrong Marks : 1

Question Key Details :

Key	Value
Comprehension	MCQ

Which of the following is not a tort ?

- (1) Conversion
- (2) Negligence
- (3) Imprisonment
- (4) Trespass

Options :

212807129117. 1
212807129118. 2
212807129119. 3
212807129120. 4

Question Number : 800 Question Id : 21280732280 Question Type : MCQ Option Shuffling : No Is Question Mandatory : No Calculator : None
Response Time : N.A Think Time : N.A Minimum Instruction Time : 0

Correct Marks : 5 Wrong Marks : 1

Question Key Details :

Key	Value
Comprehension	MCQ

निम्नलिखित में से कौनसा अपकृत्य नहीं है ?

- (1) संपरिवर्तन
- (2) उपेक्षा
- (3) कारावास
- (4) अनधिकार प्रवेश

Options :

212807129117. 1
212807129118. 2
212807129119. 3
212807129120. 4

Question Number : 801 Question Id : 21280732281 Question Type : MCQ Option Shuffling : No Is Question Mandatory : No Calculator : None
Response Time : N.A Think Time : N.A Minimum Instruction Time : 0

Correct Marks : 5 Wrong Marks : 1

Question Key Details :

Key	Value
Comprehension	MCQ

Tort law does not protect the Claimant against any human to his/her interest of :

- (1) Bodily Integrity
- (2) Economic Interests
- (3) Property
- (4) Family

Options :

212807129121. 1
212807129122. 2
212807129123. 3
212807129124. 4

Question Number : 801 Question Id : 21280732281 Question Type : MCQ Option Shuffling : No Is Question Mandatory : No Calculator : None
Response Time : N.A Think Time : N.A Minimum Instruction Time : 0

Correct Marks : 5 Wrong Marks : 1

Question Key Details :

Key	Value
Comprehension	MCQ

अपकृत्य विधि किसी दावाकर्ता को उसके किस हित के लिए किसी मानव के विरुद्ध सुरक्षा प्रदान नहीं करती है ?

- (1) कायिक अखण्डता
- (2) आर्थिक हित
- (3) संपत्ति
- (4) परिवार

Options :

212807129121. 1
212807129122. 2
212807129123. 3
212807129124. 4

Question Number : 802 Question Id : 21280732282 Question Type : MCQ Option Shuffling : No Is Question Mandatory : No Calculator : None
Response Time : N.A Think Time : N.A Minimum Instruction Time : 0

Correct Marks : 5 Wrong Marks : 1

Question Key Details :

Key	Value
Comprehension	MCQ

Which of the following is not essential of contract ?

- (1) Consent
- (2) 18 years of age
- (3) Consideration
- (4) Property

Options :

212807129125. 1
212807129126. 2
212807129127. 3
212807129128. 4

Question Number : 802 Question Id : 21280732282 Question Type : MCQ Option Shuffling : No Is Question Mandatory : No Calculator : None
Response Time : N.A Think Time : N.A Minimum Instruction Time : 0

Correct Marks : 5 Wrong Marks : 1

Question Key Details :

Key	Value
Comprehension	MCQ

निम्नलिखित में से कौनसा संविदा हेतु अनिवार्य नहीं है ?

- (1) सहमति
- (2) 18 वर्ष की आयु
- (3) विचार-विमर्श
- (4) संपत्ति

Options :

212807129125. 1
212807129126. 2
212807129127. 3
212807129128. 4

Question Number : 803 Question Id : 21280732283 Question Type : MCQ Option Shuffling : No Is Question Mandatory : No Calculator : None
Response Time : N.A Think Time : N.A Minimum Instruction Time : 0

Correct Marks : 5 Wrong Marks : 1

Question Key Details :

Key	Value
Comprehension	MCQ

The Principle of 'Absolute Liability' was coined by the Supreme Court in which of the following Case :

- (1) Union Carbide Corporation V.UOI
- (2) M.C. Mehta V. Shri Ram Foods and Fertilizers Industries
- (3) Donoghue V. Stevenson
- (4) Rylands V. Fletcher

Options :

212807129129. 1
212807129130. 2
212807129131. 3
212807129132. 4

Question Number : 803 Question Id : 21280732283 Question Type : MCQ Option Shuffling : No Is Question Mandatory : No Calculator : None
Response Time : N.A Think Time : N.A Minimum Instruction Time : 0

Correct Marks : 5 Wrong Marks : 1

Question Key Details :

Key	Value
Comprehension	MCQ

उच्चतम न्यायालय ने निम्नलिखित में से किस वाद में 'पूर्ण देनदारी' का सिद्धांत दिया ?

- (1) यूनियन कार्बाइड कारपोरेशन् बनाम भारत संघ
- (2) एम.सी. मेहता बनाम श्रीराम फूड्स एंड फर्टिलाइजर्स इंडस्ट्रीज
- (3) डोनोगह्यू बनाम स्टीवैन्सन
- (4) रायलैड्स बनाम फ्लैचर

Options :

212807129129. 1
212807129130. 2
212807129131. 3
212807129132. 4

Question Number : 804 Question Id : 21280732284 Question Type : MCQ Option Shuffling : No Is Question Mandatory : No Calculator : None
Response Time : N.A Think Time : N.A Minimum Instruction Time : 0

Correct Marks : 5 Wrong Marks : 1

Question Key Details :

Key	Value
Comprehension	MCQ

In which class of mediation, the parties agree that the mediator will express a view on what might be a fair or reasonable settlement .?

- (1) Online Mediation
- (2) Transformative Mediation
- (3) Facilitative Mediation
- (4) Evaluative Mediation

Options :

212807129133. 1
212807129134. 2
212807129135. 3
212807129136. 4

Question Number : 804 Question Id : 21280732284 Question Type : MCQ Option Shuffling : No Is Question Mandatory : No Calculator : None
Response Time : N.A Think Time : N.A Minimum Instruction Time : 0

Correct Marks : 5 Wrong Marks : 1

Question Key Details :

Key	Value
Comprehension	MCQ

मध्यस्थता की किस श्रेणी में, पक्षकार सहमत होते हैं कि मध्यस्थ, निष्पक्ष या तर्क संगत निपटान क्या हो सकेगा, पर विचार अभिव्यक्त कर सकेगा ?

- (1) ऑनलाइन मध्यस्थता
- (2) कार्यांतरणकारी मध्यस्थता
- (3) सुविधाकारी मध्यस्थता
- (4) मूल्यांकनकारी मध्यस्थता

Options :

212807129133. 1
212807129134. 2
212807129135. 3
212807129136. 4

Question Number : 805 Question Id : 21280732285 Question Type : MCQ Option Shuffling : No Is Question Mandatory : No Calculator : None
Response Time : N.A Think Time : N.A Minimum Instruction Time : 0

Correct Marks : 5 Wrong Marks : 1

Question Key Details :

Key	Value
Comprehension	MCQ

Which of the following country does not follow the adversarial system ?

- (1) U.K.
- (2) India
- (3) US
- (4) France

Options :

212807129137. 1
212807129138. 2
212807129139. 3
212807129140. 4

Question Number : 805 Question Id : 21280732285 Question Type : MCQ Option Shuffling : No Is Question Mandatory : No Calculator : None
Response Time : N.A Think Time : N.A Minimum Instruction Time : 0

Correct Marks : 5 Wrong Marks : 1

Question Key Details :

Key	Value
Comprehension	MCQ

निम्नलिखित में से कौनसा देश प्रतिकूल प्रणाली का पालन नहीं करता है ?

- (1) यू.के.
- (2) भारत
- (3) यूएसए
- (4) फ्रांस

Options :

212807129137. 1
212807129138. 2
212807129139. 3
212807129140. 4

Question Number : 806 Question Id : 21280732286 Question Type : MCQ Option Shuffling : No Is Question Mandatory : No Calculator : None
Response Time : N.A Think Time : N.A Minimum Instruction Time : 0

Correct Marks : 5 Wrong Marks : 1

Question Key Details :

Key	Value
Comprehension	MCQ

In which case, the Supreme Court of India clarify the ambit of mediation and held that representative suits, election disputes, criminal offences and cases against specific class of persons (minors etc.) are excluded from the scope of mediation ?

- (1) Konkan Railways Corp.Ltd. V. Mehul Construction Co. [(2000)7SCC20]
- (2) State of Maharashtra V. Mayor Hans George [AIR 1965 SC 722]
- (3) Afcons Infrastructure Ltd. V. Cherian Vorbey Construction Co. (p)Ltd. [(2010) 8SCC24]
- (4) Kartar Singh V. State of Punjab [1994(3) SCC569]

Options :

212807129141. 1
212807129142. 2
212807129143. 3
212807129144. 4

Question Number : 806 Question Id : 21280732286 Question Type : MCQ Option Shuffling : No Is Question Mandatory : No Calculator : None
Response Time : N.A Think Time : N.A Minimum Instruction Time : 0

Correct Marks : 5 Wrong Marks : 1

Question Key Details :

Key	Value
Comprehension	MCQ

किस वाद में भारत के उच्चतम न्यायालय ने मध्यस्थता के दायरे को स्पष्ट किया तथा व्यवस्था दी कि प्रतिनिधित्व वाद, (निर्वाचन आदि) दंडिक अपराध विशेष वर्गों के विरुद्ध वाद मध्यस्थता के दायरे से बाहर किये जाते हैं?

- (1) कौंकण रेल निगम लिमिटेड बनाम मेहुल कंस्ट्रक्शन कंपनी [(2000)7एससीसी20]
- (2) महाराष्ट्र राज्य बनाम मेयर हंस जॉर्ज [AIR 1965 एससी 722]
- (3) अफकॉन्स इंफ्रास्ट्रक्चर लिमिटेड बनाम चेरियन बोरबी कंस्ट्रक्शन कंपनी प्रा. लिमिटेड [(2010) 8एससीसी24]
- (4) करतार सिंह बनाम पंजाब राज्य [1994(3) एससीसी569]

Options :

212807129141. 1
212807129142. 2
212807129143. 3
212807129144. 4

Question Number : 807 Question Id : 21280732287 Question Type : MCQ Option Shuffling : No Is Question Mandatory : No Calculator : None
Response Time : N.A Think Time : N.A Minimum Instruction Time : 0

Correct Marks : 5 Wrong Marks : 1

Question Key Details :

Key	Value
Comprehension	MCQ

The first Lok Adalat was held in India in Junagarh in Gujarat on 14 March :

- (1) 1980
- (2) 1981
- (3) 1982
- (4) 1983

Options :

212807129145. 1
212807129146. 2
212807129147. 3
212807129148. 4

Question Number : 807 Question Id : 21280732287 Question Type : MCQ Option Shuffling : No Is Question Mandatory : No Calculator : None
Response Time : N.A Think Time : N.A Minimum Instruction Time : 0

Correct Marks : 5 Wrong Marks : 1

Question Key Details :

Key	Value
Comprehension	MCQ

भारत में प्रथम लोक अदालत का आयोजन 14 मार्च _____ को गुजरात के जूनागढ़ में किया गया था।

- (1) 1980
- (2) 1981
- (3) 1982
- (4) 1983

Options :

212807129145. 1
212807129146. 2
212807129147. 3
212807129148. 4

Question Number : 808 Question Id : 21280732288 Question Type : MCQ Option Shuffling : No Is Question Mandatory : No Calculator : None
Response Time : N.A Think Time : N.A Minimum Instruction Time : 0

Correct Marks : 5 Wrong Marks : 1

Question Key Details :

Key	Value
Comprehension	MCQ

The Institution of Lok Adalat is presided over by _____ as the Chairman.

- (1) Police Officer
- (2) Sitting or retired Judicial Officer
- (3) Prime Minister
- (4) Law Minister

Options :

212807129149. 1
212807129150. 2
212807129151. 3
212807129152. 4

Question Number : 808 Question Id : 21280732288 Question Type : MCQ Option Shuffling : No Is Question Mandatory : No Calculator : None
Response Time : N.A Think Time : N.A Minimum Instruction Time : 0

Correct Marks : 5 Wrong Marks : 1

Question Key Details :

Key	Value
Comprehension	MCQ

लोक अदालत संस्थान की अध्यक्षता _____ द्वारा अध्यक्ष के रूप में की जाती है।

- (1) पुलिस अधिकारी
- (2) वर्तमान या सेवानिवृत्त न्यायिक अधिकारी
- (3) प्रधानमंत्री
- (4) विधि मंत्री

Options :

212807129149. 1
212807129150. 2
212807129151. 3
212807129152. 4

Question Number : 809 Question Id : 21280732289 Question Type : MCQ Option Shuffling : No Is Question Mandatory : No Calculator : None
Response Time : N.A Think Time : N.A Minimum Instruction Time : 0

Correct Marks : 5 Wrong Marks : 1

Question Key Details :

Key	Value
Comprehension	MCQ

Sequentially arrange the steps of Adhoc Arbitration.

- (A) Court referral to arbitration
- (B) Statement of Claim
- (C) Arbitration Agreement
- (D) Defence
- (E) Arbitral award

Choose the correct answer from the options Adhoc below :

- (1) (A), (C), (B), (E), (D)
- (2) (A), (B), (C), (D), (E)
- (3) (C), (B), (A), (E), (D)
- (4) (C), (A), (B), (D), (E)

Options :

212807129153. 1

212807129154. 2
212807129155. 3
212807129156. 4

Question Number : 809 Question Id : 21280732289 Question Type : MCQ Option Shuffling : No Is Question Mandatory : No Calculator : None
Response Time : N.A Think Time : N.A Minimum Instruction Time : 0

Correct Marks : 5 Wrong Marks : 1

Question Key Details :

Key	Value
Comprehension	MCQ

तदर्थ माध्यस्था के सोपानों को क्रमानुसार व्यवस्थित करें।

- (A) माध्यस्था हेतु न्यायालय सुपुर्दगी
- (B) दावा कथन
- (C) माध्यस्था समझौता
- (D) रक्षा/बचाव
- (E) माध्यस्थकय अवार्ड/निर्णय

नीचे दिए गए विकल्पों में से सही उत्तर का चयन कीजिए :

- (1) (A), (C), (B), (E), (D)
- (2) (A), (B), (C), (D), (E)
- (3) (C), (B), (A), (E), (D)
- (4) (C), (A), (B), (D), (E)

Options :

212807129153. 1
212807129154. 2
212807129155. 3
212807129156. 4

Question Number : 810 Question Id : 21280732290 Question Type : MCQ Option Shuffling : No Is Question Mandatory : No Calculator : None
Response Time : N.A Think Time : N.A Minimum Instruction Time : 0

Correct Marks : 5 Wrong Marks : 1

Question Key Details :

Key	Value
Comprehension	MCQ

Match List - I with List - II.

List - I

- (A) Powers of National Commission for Women
- (B) Article.338 of the Indian Constitution
- (C) National Commission for Minorities Act, 1992
- (D) Article 29 of Indian Constitution

List - II

- (I) Safeguard human rights of Religious minorities
- (II) Civil Courts under CPC, 1908
- (III) Protection of interests of minorities
- (IV) Appointment of special officers for SC/ST related issues

Choose the correct answer from the options given below :

- (1) (A)-(II), (B)-(I), (C)-(IV), (D)-(III)
- (2) (A)-(II), (B)-(IV), (C)-(I), (D)-(III)
- (3) (A)-(I), (B)-(II), (C)-(IV), (D)-(III)
- (4) (A)-(III), (B)-(IV), (C)-(I), (D)-(II)

Options :

212807129157. 1
212807129158. 2
212807129159. 3
212807129160. 4

Question Number : 810 Question Id : 21280732290 Question Type : MCQ Option Shuffling : No Is Question Mandatory : No Calculator : None
Response Time : N.A Think Time : N.A Minimum Instruction Time : 0

Correct Marks : 5 Wrong Marks : 1

Question Key Details :

Key	Value
Comprehension	MCQ

सूची-I से सूची-II का मिलान कीजिए:

सूची-I

- (A) राष्ट्रीय महिला आयोग की शक्तियाँ
- (B) भारतीय संविधान का अनुच्छेद 338
- (C) राष्ट्रीय अल्पसंख्यक आयोग अधिनियम, 1992
- (D) भारतीय संविधान का अनुच्छेद 29

सूची-II

- (I) धार्मिक अल्पसंख्यकों के मानवाधिकारों का संरक्षण
- (II) सीपीसी, 1908 के अधीन सिविल कोर्ट के समान
- (III) अल्पसंख्यक हितों का संरक्षण
- (IV) एससी/एसटी संबंधित मामलों हेतु विशेष अधिकारियों की नियुक्ति

नीचे दिए गए विकल्पों में से सही उत्तर का चयन कीजिए :

- (1) (A)-(II), (B)-(I), (C)-(IV), (D)-(III)
- (2) (A)-(II), (B)-(IV), (C)-(I), (D)-(III)
- (3) (A)-(I), (B)-(II), (C)-(IV), (D)-(III)
- (4) (A)-(III), (B)-(IV), (C)-(I), (D)-(II)

Options :

212807129157. 1
212807129158. 2
212807129159. 3
212807129160. 4

Question Number : 811 Question Id : 21280732291 Question Type : MCQ Option Shuffling : No Is Question Mandatory : No Calculator : None
Response Time : N.A Think Time : N.A Minimum Instruction Time : 0

Correct Marks : 5 Wrong Marks : 1

Question Key Details :

Key	Value
Comprehension	MCQ

Which of the following are fundamental duties of an Indian Citizen ?

- (A) Respect of National Flag
- (B) Cherish and follow the noble ideals
- (C) Upholding and protecting the Sovereignty, unity
- (D) Separating Judiciary from Executive
- (E) Defending the country and rendering national service when called upon

Choose the correct answer from the options given below :

- (1) (A), (B), (C), (E) only
- (2) (A), (B), (E) only
- (3) (A), (B), (C), (D) only
- (4) (B), (C), (D), (E) only

Options :

212807129161. 1
212807129162. 2
212807129163. 3
212807129164. 4

Question Number : 811 Question Id : 21280732291 Question Type : MCQ Option Shuffling : No Is Question Mandatory : No Calculator : None
Response Time : N.A Think Time : N.A Minimum Instruction Time : 0

Correct Marks : 5 Wrong Marks : 1

Question Key Details :

Key	Value
Comprehension	MCQ

निम्नलिखित में से कौनसे किसी भारतीय नागरिक के मूल कर्तव्य है ?

- (A) राष्ट्रीय ध्वज का सम्मान
- (B) उच्च आदर्शों को संजोना और पालन
- (C) संप्रभुता, एकता को बनाए रखना और संरक्षण करना
- (D) कार्यपालिका को न्यायपालिका से अलग करना
- (E) देश की रक्षा और आह्वान किए जाने पर राष्ट्र की सेवा करना

नीचे दिए गए विकल्पों में से सही उत्तर का चयन कीजिए :

- (1) केवल (A), (B), (C), (E)
- (2) केवल (A), (B), (E)
- (3) केवल (A), (B), (C), (D)
- (4) केवल (B), (C), (D), (E)

Options :

212807129161. 1
212807129162. 2
212807129163. 3
212807129164. 4

Question Number : 812 Question Id : 21280732292 Question Type : MCQ Option Shuffling : No Is Question Mandatory : No Calculator : None
Response Time : N.A Think Time : N.A Minimum Instruction Time : 0

Correct Marks : 5 Wrong Marks : 1

Question Key Details :

Key	Value
Comprehension	MCQ

Match List - I with List - II.

List - I

- (A) Article. 14
- (B) Article. 16
- (C) Article. 25
- (D) Article. 29

List - II

- (I) Cultural and Educational Rights
- (II) Right to Equality
- (III) Affirmative Action
- (IV) Freedom of Religion

Choose the correct answer from the options given below :

- (1) (A)-(II), (B)-(III), (C)-(IV), (D)-(I)
- (2) (A)-(I), (B)-(II), (C)-(III), (D)-(IV)
- (3) (A)-(III), (B)-(IV), (C)-(II), (D)-(I)
- (4) (A)-(IV), (B)-(I), (C)-(II), (D)-(III)

Options :

212807129165. 1

212807129166. 2
212807129167. 3
212807129168. 4

Question Number : 812 Question Id : 21280732292 Question Type : MCQ Option Shuffling : No Is Question Mandatory : No Calculator : None
Response Time : N.A Think Time : N.A Minimum Instruction Time : 0

Correct Marks : 5 Wrong Marks : 1

Question Key Details :

Key	Value
Comprehension	MCQ

सूची-I से सूची-II का मिलान कीजिए:

सूची-I

- (A) अनुच्छेद 14
- (B) अनुच्छेद 16
- (C) अनुच्छेद 25
- (D) अनुच्छेद 29

सूची-II

- (I) सांस्कृतिक और शैक्षणिक अधिकार
- (II) समानता का अधिकार
- (III) सकारात्मक कार्रवाई
- (IV) धर्म की स्वतंत्रता

नीचे दिए गए विकल्पों में से सही उत्तर का चयन कीजिए :

- (1) (A)-(II), (B)-(III), (C)-(IV), (D)-(I)
- (2) (A)-(I), (B)-(II), (C)-(III), (D)-(IV)
- (3) (A)-(III), (B)-(IV), (C)-(II), (D)-(I)
- (4) (A)-(IV), (B)-(I), (C)-(II), (D)-(III)

Options :

212807129165. 1
212807129166. 2
212807129167. 3
212807129168. 4

Question Number : 813 Question Id : 21280732293 Question Type : MCQ Option Shuffling : No Is Question Mandatory : No Calculator : None
Response Time : N.A Think Time : N.A Minimum Instruction Time : 0

Correct Marks : 5 Wrong Marks : 1

Question Key Details :

Key	Value
Comprehension	MCQ

Arrange the words in sequence as provided in the Preamble of the Indian Constitution.

- (A) Sovereign
- (B) Democratic
- (C) Socialist
- (D) Republic
- (E) Secular

Choose the correct answer from the options given below :

- (1) (E), (D), (C), (A), (B)
- (2) (A), (C), (E), (B), (D)
- (3) (A), (B), (C), (D), (E)
- (4) (A), (E), (C), (B), (D)

Options :

212807129169. 1
212807129170. 2
212807129171. 3

Question Number : 813 Question Id : 21280732293 Question Type : MCQ Option Shuffling : No Is Question Mandatory : No Calculator : None
Response Time : N.A Think Time : N.A Minimum Instruction Time : 0

Correct Marks : 5 Wrong Marks : 1

Question Key Details :

Key	Value
Comprehension	MCQ

निम्नलिखित शब्दों को भारत के संविधान की प्रस्तावना में प्रदत्त क्रमानुसार व्यवस्थित करें।

- (A) संप्रभु
- (B) लोकतंत्रिक
- (C) समाजवादी
- (D) गणराज्य
- (E) धर्मनिरपेक्ष

नीचे दिए गए विकल्पों में से सही उत्तर का चयन कीजिए :

- (1) (E), (D), (C), (A), (B)
- (2) (A), (C), (E), (B), (D)
- (3) (A), (B), (C), (D), (E)
- (4) (A), (E), (C), (B), (D)

Options :

- 212807129169. 1
- 212807129170. 2
- 212807129171. 3
- 212807129172. 4

Question Number : 814 Question Id : 21280732294 Question Type : MCQ Option Shuffling : No Is Question Mandatory : No Calculator : None
Response Time : N.A Think Time : N.A Minimum Instruction Time : 0

Correct Marks : 5 Wrong Marks : 1

Question Key Details :

Key	Value
Comprehension	MCQ

Article 21 of Indian Constitution states that "No person shall be deprived of his life or personal liberty except _____".

- (1) Due process of Law
- (2) Procedure established by Law
- (3) Procedure established by Court
- (4) Due process of Court

Options :

- 212807129173. 1
- 212807129174. 2
- 212807129175. 3
- 212807129176. 4

Question Number : 814 Question Id : 21280732294 Question Type : MCQ Option Shuffling : No Is Question Mandatory : No Calculator : None
Response Time : N.A Think Time : N.A Minimum Instruction Time : 0

Correct Marks : 5 Wrong Marks : 1

Question Key Details :

Key	Value
Comprehension	MCQ

अनुच्छेद 21 उल्लेख करता है कि “कोई व्यक्ति _____ के सिवाए जीवन या व्यक्तिगत स्वतंत्रता से वंचित नहीं किया जाएगा।”

- (1) विधि की सम्यक् प्रक्रिया
- (2) विधि द्वारा स्थापित प्रक्रिया
- (3) न्यायालय द्वारा स्थापित प्रक्रिया
- (4) न्यायालय की सम्यक् प्रक्रिया

Options :

212807129173. 1
212807129174. 2
212807129175. 3
212807129176. 4

Question Number : 815 Question Id : 21280732295 Question Type : MCQ Option Shuffling : No Is Question Mandatory : No Calculator : None
Response Time : N.A Think Time : N.A Minimum Instruction Time : 0

Correct Marks : 5 Wrong Marks : 1

Question Key Details :

Key	Value
Comprehension	MCQ

Sequentially arrange the Freedoms guaranteed to the Indian citizens provided under Article 19 of the Constitution of India.

- (A) Freedom to form associations or unions
- (B) Freedom to move freely throughout the territory of India
- (C) Freedom of speech and expression
- (D) Freedom to assemble peaceably and without arms
- (E) Freedom to reside and settle in any part of the territory of India

Choose the **correct** answer from the options given below :

- (1) (D), (C), (A), (E), (B)
- (2) (C), (D), (A), (B), (E)
- (3) (A), (C), (B), (E), (D)
- (4) (B), (A), (C), (D), (E)

Options :

212807129177. 1
212807129178. 2
212807129179. 3
212807129180. 4

Question Number : 815 Question Id : 21280732295 Question Type : MCQ Option Shuffling : No Is Question Mandatory : No Calculator : None
Response Time : N.A Think Time : N.A Minimum Instruction Time : 0

Correct Marks : 5 Wrong Marks : 1

Question Key Details :

Key	Value
Comprehension	MCQ

भारत के संविधान के अनुच्छेद 19 के अंतर्गत भारत के नागरिकों गारंटीभूत प्रदत्त स्वतंत्रताओं को क्रमानुसार व्यवस्थित करें।

- (A) संगम या संघ बनाने की स्वतंत्रता
- (B) भारत के क्षेत्र में मुक्त स्वतंत्र संचरण की स्वतंत्रता
- (C) वाक् और अभिव्यक्ति की स्वतंत्रता
- (D) शांतिपूर्ण और निरायुध सम्मेलन की स्वतंत्रता
- (E) भारत के क्षेत्र में किसी भी भाग में निवास और बसने की स्वतंत्रता

नीचे दिए गए विकल्पों में से सही उत्तर का चयन कीजिए :

- (1) (D), (C), (A), (E), (B)
- (2) (C), (D), (A), (B), (E)
- (3) (A), (C), (B), (E), (D)
- (4) (B), (A), (C), (D), (E)

Options :

- 212807129177. 1
- 212807129178. 2
- 212807129179. 3
- 212807129180. 4

Question Number : 816 Question Id : 21280732296 Question Type : MCQ Option Shuffling : No Is Question Mandatory : No Calculator : None Response Time : N.A Think Time : N.A Minimum Instruction Time : 0

Correct Marks : 5 Wrong Marks : 1

Question Key Details :

Key	Value
Comprehension	MCQ

Match List - I with List - II.

List - I

- (A) NGO's
- (B) Public Policy
- (C) Corporate Sector
- (D) Legal Research and Academic

List - II

- (I) In-house counsel
- (II) LAMP fellowship programme
- (III) Post graduate Degree in Law (LLM)
- (IV) Free Legal Aid

Choose the correct answer from the options given below :

- (1) (A)-(I), (B)-(II), (C)-(IV), (D)-(III)
- (2) (A)-(III), (B)-(II), (C)-(I), (D)-(IV)
- (3) (A)-(IV), (B)-(II), (C)-(I), (D)-(III)
- (4) (A)-(II), (B)-(I), (C)-(III), (D)-(IV)

Options :

- 212807129181. 1
- 212807129182. 2
- 212807129183. 3
- 212807129184. 4

Question Number : 816 Question Id : 21280732296 Question Type : MCQ Option Shuffling : No Is Question Mandatory : No Calculator : None Response Time : N.A Think Time : N.A Minimum Instruction Time : 0

Correct Marks : 5 Wrong Marks : 1

Question Key Details :

Key	Value
Comprehension	MCQ

सूची-I से सूची-II का मिलान कीजिए:

सूची-I

- (A) एनजीओ
- (B) लोकनीति
- (C) कोरपोरेट क्षेत्र
- (D) विधिक शोध और अकादमिक

सूची-II

- (I) आंतरिक परामर्श
- (II) लैम्प फेलोशिप कार्यक्रम
- (III) विधि में परास्नातक डिग्री (एलएलएम)
- (IV) निशुल्क विधिक सहायता

नीचे दिए गए विकल्पों में से सही उत्तर का चयन कीजिए :

- (1) (A)-(I), (B)-(II), (C)-(IV), (D)-(III)
- (2) (A)-(III), (B)-(II), (C)-(I), (D)-(IV)
- (3) (A)-(IV), (B)-(II), (C)-(I), (D)-(III)
- (4) (A)-(II), (B)-(I), (C)-(III), (D)-(IV)

Options :

- 212807129181. 1
- 212807129182. 2
- 212807129183. 3
- 212807129184. 4

Question Number : 817 Question Id : 21280732297 Question Type : MCQ Option Shuffling : No Is Question Mandatory : No Calculator : None Response Time : N.A Think Time : N.A Minimum Instruction Time : 0

Correct Marks : 5 Wrong Marks : 1

Question Key Details :

Key	Value
Comprehension	MCQ

Who acts as the ex-officio member of the All India Bar Council ?

- (1) Attorney General
- (2) Solicitor General
- (3) Attorney General and Solicitor General
- (4) Advocate General

Options :

- 212807129185. 1
- 212807129186. 2
- 212807129187. 3
- 212807129188. 4

Question Number : 817 Question Id : 21280732297 Question Type : MCQ Option Shuffling : No Is Question Mandatory : No Calculator : None Response Time : N.A Think Time : N.A Minimum Instruction Time : 0

Correct Marks : 5 Wrong Marks : 1

Question Key Details :

Key	Value
Comprehension	MCQ

अखिल भारतीय बार काउंसिल के पदेन-सदस्य के रूप में कौन कार्य करता है ?

- (1) महान्यायवादी
- (2) सोलिसिटर जनरल
- (3) महान्यायवादी और सोलिसिटर जनरल
- (4) महाधिवक्ता

Options :

- 212807129185. 1

212807129186. 2
212807129187. 3
212807129188. 4

Question Number : 818 Question Id : 21280732298 Question Type : MCQ Option Shuffling : No Is Question Mandatory : No Calculator : None
Response Time : N.A Think Time : N.A Minimum Instruction Time : 0

Correct Marks : 5 Wrong Marks : 1

Question Key Details :

Key	Value
Comprehension	MCQ

Which of the following Act regulates legal profession in India ?

- (1) Indian Bar Councils Act, 1926
- (2) Advocates Act, 1961
- (3) Bar Association Act, 1947
- (4) Legal Practitioner Act, 1879

Options :

212807129189. 1
212807129190. 2
212807129191. 3
212807129192. 4

Question Number : 818 Question Id : 21280732298 Question Type : MCQ Option Shuffling : No Is Question Mandatory : No Calculator : None
Response Time : N.A Think Time : N.A Minimum Instruction Time : 0

Correct Marks : 5 Wrong Marks : 1

Question Key Details :

Key	Value
Comprehension	MCQ

निम्नलिखित में से कौनसा अधिनियम भारत में विधिक पेशे का विनियमन करता है ?

- (1) भारतीय बार काउंसिल अधिनियम, 1926
- (2) अधिवक्ता अधिनियम, 1961
- (3) बार एसोसिएशन अधिनियम, 1947
- (4) विधिक व्यवसायी अधिनियम, 1879

Options :

212807129189. 1
212807129190. 2
212807129191. 3
212807129192. 4

Question Number : 819 Question Id : 21280732299 Question Type : MCQ Option Shuffling : No Is Question Mandatory : No Calculator : None
Response Time : N.A Think Time : N.A Minimum Instruction Time : 0

Correct Marks : 5 Wrong Marks : 1

Question Key Details :

Key	Value
Comprehension	MCQ

In order to be eligible for enrolment in State Bar Council, a person must be :

- (A) Have cleared All India Bar Examination
- (B) Having a recommendation letter
- (C) A Citizen of India
- (D) Atleast 21 years of age
- (E) L.L.B. degree from an Indian University

Choose the correct answer from the options given below :

- (1) (A), (B), (D), (E) only
- (2) (A), (C), (D), (E) only
- (3) (B), (C), (D), (E) only
- (4) (A), (B), (C), (E) only

Options :

212807129193. 1

212807129194. 2

212807129195. 3

212807129196. 4

Question Number : 819 Question Id : 21280732299 Question Type : MCQ Option Shuffling : No Is Question Mandatory : No Calculator : None Response Time : N.A Think Time : N.A Minimum Instruction Time : 0

Correct Marks : 5 Wrong Marks : 1

Question Key Details :

Key	Value
Comprehension	MCQ

राज्य बार काउंसिल के लिए अर्हक/योग्य होने के लिए किस अधिवक्ता को निम्न में से क्या होना चाहिए :

- (A) अखिल भारतीय बार परीक्षा उत्तीर्ण
- (B) अनुशंसा पत्र धारक
- (C) भारत का नागरिक
- (D) न्यूनतम 21 वर्ष आयु
- (E) किसी भारतीय विश्वविद्यालय से एलएलबी डिग्री

नीचे दिए गए विकल्पों में से सही उत्तर का चयन कीजिए :

- (1) केवल (A), (B), (D), (E)
- (2) केवल (A), (C), (D), (E)
- (3) केवल (B), (C), (D), (E)
- (4) केवल (A), (B), (C), (E)

Options :

212807129193. 1

212807129194. 2

212807129195. 3

212807129196. 4

Question Number : 820 Question Id : 21280732300 Question Type : MCQ Option Shuffling : No Is Question Mandatory : No Calculator : None Response Time : N.A Think Time : N.A Minimum Instruction Time : 0

Correct Marks : 5 Wrong Marks : 1

Question Key Details :

Key	Value
Comprehension	MCQ

Which of the following is not a function of Bar Council of India ?

- (1) To promote and Support law reforms
- (2) To conduct seminars and talks on legal topics
- (3) To organise legal aid to the poor
- (4) To promote and support law firms

Options :

212807129197. 1
212807129198. 2
212807129199. 3
212807129200. 4

Question Number : 820 Question Id : 21280732300 Question Type : MCQ Option Shuffling : No Is Question Mandatory : No Calculator : None
Response Time : N.A Think Time : N.A Minimum Instruction Time : 0

Correct Marks : 5 Wrong Marks : 1

Question Key Details :

Key	Value
Comprehension	MCQ

निम्नलिखित में से कौनसा कार्य बार काउंसिल ऑफ इंडिया का नहीं है ?

- (1) विधि सुधारों का संप्रवर्तन और समर्थन
- (2) विधिक मुद्दों पर सेमीनार और वार्तालाप आयोजित करना
- (3) गरीबों हेतु विधिक सहायता प्रदान करना
- (4) विधि फर्मों का संप्रवर्तन और समर्थन

Options :

212807129197. 1
212807129198. 2
212807129199. 3
212807129200. 4

Question Number : 821 Question Id : 21280732301 Question Type : MCQ Option Shuffling : No Is Question Mandatory : No Calculator : None
Response Time : N.A Think Time : N.A Minimum Instruction Time : 0

Correct Marks : 5 Wrong Marks : 1

Question Key Details :

Key	Value
Comprehension	MCQ

Match List - I with List - II.

List - I

Countries

- (A) Hong Kong
- (B) Malaysia
- (C) United States of America
- (D) India

List - II

Advertising by Lawyers

- (I) Legal Profession (Publicity Rules) 2001
- (II) 5 piece information on website
- (III) Advertise in print media
- (IV) Hand over Business cards and advertise on internet forums

Choose the correct answer from the options given below :

- (1) (A)-(I), (B)-(IV), (C)-(II), (D)-(III)
- (2) (A)-(II), (B)-(III), (C)-(I), (D)-(IV)
- (3) (A)-(IV), (B)-(II), (C)-(III), (D)-(I)
- (4) (A)-(III), (B)-(I), (C)-(IV), (D)-(II)

Options :

212807129201. 1
212807129202. 2

212807129203. 3
212807129204. 4

Question Number : 821 Question Id : 21280732301 Question Type : MCQ Option Shuffling : No Is Question Mandatory : No Calculator : None
Response Time : N.A Think Time : N.A Minimum Instruction Time : 0
Correct Marks : 5 Wrong Marks : 1

Question Key Details :

Key	Value
Comprehension	MCQ

सूची-I से सूची-II का मिलान कीजिए:

सूची-I

देश

- (A) हांगकांग
(B) मलेशिया
(C) संयुक्त राज्य अमेरिका
(D) भारत

सूची-II

वकीलों द्वारा विज्ञापन

- (I) विधिक पेशा (प्रचार नियम) 2001
(II) वेबसाइट पर 5 मद् सूचना
(III) प्रिंट मीडिया में विज्ञापन करना
(IV) बिजनेस कार्ड देना और इंटरनेट मंचों पर विज्ञापन करना

नीचे दिए गए विकल्पों में से सही उत्तर का चयन कीजिए :

- (1) (A)-(I), (B)-(IV), (C)-(II), (D)-(III)
(2) (A)-(II), (B)-(III), (C)-(I), (D)-(IV)
(3) (A)-(IV), (B)-(II), (C)-(III), (D)-(I)
(4) (A)-(III), (B)-(I), (C)-(IV), (D)-(II)

Options :

212807129201. 1
212807129202. 2
212807129203. 3
212807129204. 4

Question Number : 822 Question Id : 21280732302 Question Type : MCQ Option Shuffling : No Is Question Mandatory : No Calculator : None
Response Time : N.A Think Time : N.A Minimum Instruction Time : 0
Correct Marks : 5 Wrong Marks : 1

Question Key Details :

Key	Value
Comprehension	MCQ

Which of the following are part of pre-litigations services ?

- (A) Hiring a lawyer
(B) Legal education
(C) Legal advice
(D) Legal awareness
(E) Pre-litigation settlement

Choose the correct answer from the options given below :

- (1) (A), (B), (C), (D) only
(2) (B), (C), (D), (E) only
(3) (C), (D), (E), (A) only
(4) (A), (B), (D), (E) only

Options :

212807129205. 1
212807129206. 2

212807129207. 3
212807129208. 4

Question Number : 822 Question Id : 21280732302 Question Type : MCQ Option Shuffling : No Is Question Mandatory : No Calculator : None
Response Time : N.A Think Time : N.A Minimum Instruction Time : 0
Correct Marks : 5 Wrong Marks : 1

Question Key Details :

Key	Value
Comprehension	MCQ

निम्नलिखित में से क्या पूर्व-वाद सेवाओं का भाग है ?

- (A) अधिवक्ता की सेवाएं लेना
- (B) विधिक शिक्षा
- (C) विधिक सलाह
- (D) विधिक जागरूकता
- (E) पूर्व-वाद निपटान

नीचे दिए गए विकल्पों में से सही उत्तर का चयन कीजिए :

- (1) केवल (A), (B), (C), (D)
- (2) केवल (B), (C), (D), (E)
- (3) केवल (C), (D), (E), (A)
- (4) केवल (A), (B), (D), (E)

Options :

212807129205. 1
212807129206. 2
212807129207. 3
212807129208. 4

Question Number : 823 Question Id : 21280732303 Question Type : MCQ Option Shuffling : No Is Question Mandatory : No Calculator : None
Response Time : N.A Think Time : N.A Minimum Instruction Time : 0
Correct Marks : 5 Wrong Marks : 1

Question Key Details :

Key	Value
Comprehension	MCQ

Choose the correct chronological order of evolution.

- (A) The General Assembly of the UN, enacted the statute of the ICJ.
- (B) The Vienna Declaration and Programme of Action
- (C) IMF and World Bank were dubbed the Bretton Woods Twins
- (D) UNESCO was set up to promote coordination between the member states

Choose the correct answer from the options given below :

- (1) (A), (B), (C), (D)
- (2) (C), (D), (A), (B)
- (3) (C), (A), (B), (D)
- (4) (A), (D), (C), (B)

Options :

212807129209. 1
212807129210. 2
212807129211. 3
212807129212. 4

Question Number : 823 Question Id : 21280732303 Question Type : MCQ Option Shuffling : No Is Question Mandatory : No Calculator : None
Response Time : N.A Think Time : N.A Minimum Instruction Time : 0

Correct Marks : 5 Wrong Marks : 1

Question Key Details :

Key	Value
Comprehension	MCQ

निम्नलिखित में से विकास के सही कालक्रमानुसार क्रम का चयन करें।

- (A) यूएन महासभा ने आईसीजे की संविधि अधिनियमित की
- (B) वियना घोषणा और कार्रवाई कार्यक्रम
- (C) आईएमएफ और विश्व बैंक को ब्रेटन वुड्स जुड़वा कहा गया
- (D) सदस्य देशों के मध्य समन्वय को बढ़ावा देने के लिए यूनेस्को की स्थापना की गई थी।

नीचे दिए गए विकल्पों में से सही उत्तर का चयन कीजिए :

- (1) (A), (B), (C), (D)
- (2) (C), (D), (A), (B)
- (3) (C), (A), (B), (D)
- (4) (A), (D), (C), (B)

Options :

212807129209. 1

212807129210. 2

212807129211. 3

212807129212. 4

Question Number : 824 Question Id : 21280732304 Question Type : MCQ Option Shuffling : No Is Question Mandatory : No Calculator : None
Response Time : N.A Think Time : N.A Minimum Instruction Time : 0

Correct Marks : 5 Wrong Marks : 1

Question Key Details :

Key	Value
Comprehension	MCQ

What does the legal maxim 'Caveat emptor' mean :

- (1) Let the seller be aware
- (2) Let the buyer be aware
- (3) Both buyer and seller be aware
- (4) No one should be aware

Options :

212807129213. 1

212807129214. 2

212807129215. 3

212807129216. 4

Question Number : 824 Question Id : 21280732304 Question Type : MCQ Option Shuffling : No Is Question Mandatory : No Calculator : None
Response Time : N.A Think Time : N.A Minimum Instruction Time : 0

Correct Marks : 5 Wrong Marks : 1

Question Key Details :

Key	Value
Comprehension	MCQ

विधिक पद “कैविएट इंपटर” से क्या अभिप्रेत है?

- (1) विक्रेता सावधान रहें
- (2) क्रेता सावधान रहें
- (3) क्रेता और विक्रेता दोनों सावधान रहें
- (4) कोई सावधान नहीं रहना चाहिए

Options :

212807129213. 1
212807129214. 2
212807129215. 3
212807129216. 4

Question Number : 825 Question Id : 21280732305 Question Type : MCQ Option Shuffling : No Is Question Mandatory : No Calculator : None
Response Time : N.A Think Time : N.A Minimum Instruction Time : 0

Correct Marks : 5 Wrong Marks : 1

Question Key Details :

Key	Value
Comprehension	MCQ

What does the legal maxim ‘Locus Standi’ mean :

- (1) Right of party to appear and be heard by a Court
- (2) Standing Orders of the Court
- (3) Lacks of standing jurisdiction
- (4) Stand when you address the Court

Options :

212807129217. 1
212807129218. 2
212807129219. 3
212807129220. 4

Question Number : 825 Question Id : 21280732305 Question Type : MCQ Option Shuffling : No Is Question Mandatory : No Calculator : None
Response Time : N.A Think Time : N.A Minimum Instruction Time : 0

Correct Marks : 5 Wrong Marks : 1

Question Key Details :

Key	Value
Comprehension	MCQ

विधिक पद ‘लोकस स्टेण्डी’ से क्या अभिप्रेत हैं ?

- (1) पक्षकार का न्यायालय के समक्ष प्रस्तुत होने और सुनवाई का अधिकार
- (2) न्यायालय के स्थायी आदेश
- (3) स्थायी न्यायक्षेत्र की कमी
- (4) न्यायालय को संबोधित करते समय खड़े रहें

Options :

212807129217. 1
212807129218. 2
212807129219. 3
212807129220. 4

Sub-Section Number :

2

Sub-Section Id :

2128072534

Question Shuffling Allowed :

No

Is Section Default? :

null

Question Number : 826 Question Id : 21280732306 Question Type : MCQ Option Shuffling : No Is Question Mandatory : No Calculator : None
Response Time : N.A Think Time : N.A Minimum Instruction Time : 0

Correct Marks : 5 Wrong Marks : 1

Question Key Details :

Key	Value
Comprehension	Comp1

Read the following paragraph and answer the questions given below :

“India has ratified the international covenant on Civil and Political Rights which came into force in 1976 and is bound by the International obligation to provide free legal assistance as per the requirements of the covenant. The Supreme Court of India has adopted the method of giving effect to International legal obligations when these obligations exist in the Indian legal system expressly the court also recognised international legal obligations as part of the law of the land where Indian law can be harmoniously interpreted as in conformity with international law”.

“Legal Aid is a privilege rather than a duty of the Magistrate”, was held by Supreme Court in :

- (1) Tara Singh v. State
- (2) Hussainara Khatoon v. State
- (3) Md. Khalid v. State
- (4) M.H. Hoskot v. State

Options :

212807129221. 1
212807129222. 2
212807129223. 3
212807129224. 4

Question Number : 826 Question Id : 21280732306 Question Type : MCQ Option Shuffling : No Is Question Mandatory : No Calculator : None
Response Time : N.A Think Time : N.A Minimum Instruction Time : 0

Correct Marks : 5 Wrong Marks : 1

Question Key Details :

Key	Value
Comprehension	Comp1

निम्नलिखित पैराग्राफ को पढ़ें और नीचे दिए गए प्रश्न का उत्तर दें :

“ भारत ने 1976 में प्रभावशील हुई सिविल और राजनीतिक अधिकार अंतर्राष्ट्रीय प्रसंविदा को अधिसूचित किया है तथा प्रसंविदा की जरूरतों के अनुरूप निःशुल्क विधिक सहायता प्रदान करने के अंतर्राष्ट्रीय दायित्व से बंधा है। भारत के उच्चतम न्यायालय में अंतर्राष्ट्रीय विधिक दायित्वों को प्रभावशील करने की विधि को अंगीकृत किया है, जहाँ यह दायित्व भारतीय विधिक प्रणाली में स्पष्ट विद्यमान होते हैं, देश की विधि के भाग के रूप में भी अंतर्राष्ट्रीय विधिक दायित्वों को न्यायालय ने मान्यता प्रदान की है जहाँ भारतीय दायित्वों को न्यायालय ने मान्यता प्रदान की है जहाँ भारतीय विधि को अंतर्राष्ट्रीय विधि से सुसंगतता में सौहार्दपूर्ण रीति से व्याख्यायित किया जा सकता है।

उच्चतम न्यायालय द्वारा किस वाद में व्यवस्था दी गई कि निशुल्क विधिक सहायता मजिस्ट्रेट के कर्तव्य के बजाए एक विशेषाधिकार है?

- (1) तारासिंह बनाम राज्य
- (2) हुसैनआरा खातून बनाम राज्य
- (3) मोहम्मद खालिद बनाम राज्य
- (4) एम.एच. होसकोट बनाम राज्य

Options :

212807129221. 1
212807129222. 2
212807129223. 3
212807129224. 4

Question Number : 827 Question Id : 21280732307 Question Type : MCQ Option Shuffling : No Is Question Mandatory : No Calculator : None
Response Time : N.A Think Time : N.A Minimum Instruction Time : 0

Correct Marks : 5 Wrong Marks : 1

Question Key Details :

Key	Value
Comprehension	Comp1

Read the following paragraph and answer the questions given below :

“India has ratified the international covenant on Civil and Political Rights which came into force in 1976 and is bound by the International obligation to provide free legal assistance as per the requirements of the covenant. The Supreme Court of India has adopted the method of giving effect to International legal obligations when these obligations exist in the Indian legal system expressly the court also recognised international legal obligations as part of the law of the land where Indian law can be harmoniously interpreted as in conformity with international law”.

An explicit provision of free legal services is incorporated in :

- (1) Universal Declaration of Human Rights
- (2) International Covenant on Civil and Political Rights
- (3) International Covenant on Economic Social and Cultural Rights
- (4) International Covenant on Legal Services

Options :

212807129225. 1
212807129226. 2
212807129227. 3
212807129228. 4

Question Number : 827 Question Id : 21280732307 Question Type : MCQ Option Shuffling : No Is Question Mandatory : No Calculator : None
Response Time : N.A Think Time : N.A Minimum Instruction Time : 0

Correct Marks : 5 Wrong Marks : 1

Question Key Details :

Key	Value
Comprehension	Comp1

निम्नलिखित पैराग्राफ को पढ़ें और नीचे दिए गए प्रश्न का उत्तर दें :

“ भारत ने 1976 में प्रभावशील हुई सिविल और राजनीतिक अधिकार अंतर्राष्ट्रीय प्रसंविदा को अधिसूचित किया है तथा प्रसंविदा की जरूरतों के अनुरूप निःशुल्क विधिक सहायता प्रदान करने के अंतर्राष्ट्रीय दायित्व से बंधा है। भारत के उच्चतम न्यायालय में अंतर्राष्ट्रीय विधिक दायित्वों को प्रभावशील करने की विधि को अंगीकृत किया है, जहाँ यह दायित्व भारतीय विधिक प्रणाली में स्पष्ट विद्यमान होते हैं, देश की विधि के भाग के रूप में भी अंतर्राष्ट्रीय विधिक दायित्वों को न्यायालय ने मान्यता प्रदान की है जहाँ भारतीय दायित्वों को न्यायालय ने मान्यता प्रदान की है जहाँ भारतीय विधि को अंतर्राष्ट्रीय विधि से सुसंगतता में सौहार्दपूर्ण रीति से व्याख्यायित किया जा सकता है।

निःशुल्क विधिक सेवाओं का स्पष्ट प्रावधान किसमें निगमित/समाहित किया गया ?

- (1) मानवाधिकारों की सार्वभौमिक घोषणा
- (2) अंतर्राष्ट्रीय सिविल और राजनीतिक अधिकार प्रसंविदा
- (3) अंतर्राष्ट्रीय आर्थिक सामाजिक और सांस्कृतिक अधिकार प्रसंविदा
- (4) अंतर्राष्ट्रीय विधिक सेवाएं प्रसंविदा

Options :

212807129225. 1
212807129226. 2
212807129227. 3
212807129228. 4

Question Number : 828 Question Id : 21280732308 Question Type : MCQ Option Shuffling : No Is Question Mandatory : No Calculator : None
Response Time : N.A Think Time : N.A Minimum Instruction Time : 0

Correct Marks : 5 Wrong Marks : 1

Question Key Details :

Key	Value
Comprehension	Comp1

Read the following paragraph and answer the questions given below :

“India has ratified the international covenant on Civil and Political Rights which came into force in 1976 and is bound by the International obligation to provide free legal assistance as per the requirements of the covenant. The Supreme Court of India has adopted the method of giving effect to International legal obligations when these obligations exist in the Indian legal system expressly the court also recognised international legal obligations as part of the law of the land where Indian law can be harmoniously interpreted as in conformity with international law”.

In _____, it is essential that citizens have faith in their institution.

- (1) Participatory autocracy
- (2) Observatory democracy
- (3) Sacred democracy
- (4) Participatory democracy

Options :

212807129229. 1

212807129230. 2

212807129231. 3

212807129232. 4

Question Number : 828 Question Id : 21280732308 Question Type : MCQ Option Shuffling : No Is Question Mandatory : No Calculator : None
Response Time : N.A Think Time : N.A Minimum Instruction Time : 0

Correct Marks : 5 Wrong Marks : 1

Question Key Details :

Key	Value
Comprehension	Comp1

निम्नलिखित पैराग्राफ को पढ़ें और नीचे दिए गए प्रश्न का उत्तर दें :

“ भारत ने 1976 में प्रभावशील हुई सिविल और राजनीतिक अधिकार अंतर्राष्ट्रीय प्रसंविदा को अधिसूचित किया है तथा प्रसंविदा की जरूरतों के अनुरूप निःशुल्क विधिक सहायता प्रदान करने के अंतर्राष्ट्रीय दायित्व से बंधा है। भारत के उच्चतम न्यायालय में अंतर्राष्ट्रीय विधिक दायित्वों को प्रभावशील करने की विधि को अंगीकृत किया है, जहाँ यह दायित्व भारतीय विधिक प्रणाली में स्पष्ट विद्यमान होते हैं, देश की विधि के भाग के रूप में भी अंतर्राष्ट्रीय विधिक दायित्वों को न्यायालय ने मान्यता प्रदान की है जहाँ भारतीय दायित्वों को न्यायालय ने मान्यता प्रदान की है जहाँ भारतीय विधि को अंतर्राष्ट्रीय विधि से सुसंगतता में सौहार्दपूर्ण रीति से व्याख्यायित किया जा सकता है।

_____ में यह अनिवार्य है कि नागरिकों का अपने संस्थानों में भरोसा हो

- (1) सहभागी तानाशाही
- (2) प्रेक्षणकारी लोकतंत्र
- (3) पवित्र लोकतंत्र
- (4) सहभागी लोकतंत्र

Options :

212807129229. 1

212807129230. 2

212807129231. 3

Question Number : 829 Question Id : 21280732309 Question Type : MCQ Option Shuffling : No Is Question Mandatory : No Calculator : None
Response Time : N.A Think Time : N.A Minimum Instruction Time : 0

Correct Marks : 5 Wrong Marks : 1

Question Key Details :

Key	Value
Comprehension	Comp1

Read the following paragraph and answer the questions given below :

“India has ratified the international covenant on Civil and Political Rights which came into force in 1976 and is bound by the International obligation to provide free legal assistance as per the requirements of the covenant. The Supreme Court of India has adopted the method of giving effect to International legal obligations when these obligations exist in the Indian legal system expressly the court also recognised international legal obligations as part of the law of the land where Indian law can be harmoniously interpreted as in conformity with international law”.

Free Legal Aid is provided to :

- (1) Person below creamy layer
- (2) Poor and indigenous person
- (3) Readers and lawyers
- (4) Judicial officers

Options :

212807129233. 1

212807129234. 2

212807129235. 3

212807129236. 4

Question Number : 829 Question Id : 21280732309 Question Type : MCQ Option Shuffling : No Is Question Mandatory : No Calculator : None
Response Time : N.A Think Time : N.A Minimum Instruction Time : 0

Correct Marks : 5 Wrong Marks : 1

Question Key Details :

Key	Value
Comprehension	Comp1

निम्नलिखित पैराग्राफ को पढ़ें और नीचे दिए गए प्रश्न का उत्तर दें :

“ भारत ने 1976 में प्रभावशील हुई सिविल और राजनीतिक अधिकार अंतर्राष्ट्रीय प्रसंविदा को अधिसूचित किया है तथा प्रसंविदा की जरूरतों के अनुरूप निःशुल्क विधिक सहायता प्रदान करने के अंतर्राष्ट्रीय दायित्व से बंधा है। भारत के उच्चतम न्यायालय में अंतर्राष्ट्रीय विधिक दायित्वों को प्रभावशील करने की विधि को अंगीकृत किया है, जहाँ यह दायित्व भारतीय विधिक प्रणाली में स्पष्ट विद्यमान होते हैं, देश की विधि के भाग के रूप में भी अंतर्राष्ट्रीय विधिक दायित्वों को न्यायालय ने मान्यता प्रदान की है जहाँ भारतीय दायित्वों को न्यायालय ने मान्यता प्रदान की है जहाँ भारतीय विधि को अंतर्राष्ट्रीय विधि से सुसंगतता में सौहार्दपूर्ण रीति से व्याख्यायित किया जा सकता है।

निःशुल्क विधिक सहायता किसे प्रदान की जाती है ?

- (1) क्रीमी लेयर से नीचे व्यक्ति
- (2) गरीब और मूलवासी व्यक्ति
- (3) पाठक और वकील
- (4) न्यायिक अधिकारी

Options :

212807129233. 1

212807129234. 2

212807129235. 3
212807129236. 4

Question Number : 830 Question Id : 21280732310 Question Type : MCQ Option Shuffling : No Is Question Mandatory : No Calculator : None
Response Time : N.A Think Time : N.A Minimum Instruction Time : 0

Correct Marks : 5 Wrong Marks : 1

Question Key Details :

Key	Value
Comprehension	Compl

Read the following paragraph and answer the questions given below :

“India has ratified the international covenant on Civil and Political Rights which came into force in 1976 and is bound by the International obligation to provide free legal assistance as per the requirements of the covenant. The Supreme Court of India has adopted the method of giving effect to International legal obligations when these obligations exist in the Indian legal system expressly the court also recognised international legal obligations as part of the law of the land where Indian law can be harmoniously interpreted as in conformity with international law”.

Who was the Chairman of the committee on National Implementation of Legal Aid, 1980 ?

- (1) Justice Krishna Iyer
- (2) Justice Subba Rao
- (3) Justice P.N. Bhagwati
- (4) Justice Chandiachud

Options :

212807129237. 1
212807129238. 2
212807129239. 3
212807129240. 4

Question Number : 830 Question Id : 21280732310 Question Type : MCQ Option Shuffling : No Is Question Mandatory : No Calculator : None
Response Time : N.A Think Time : N.A Minimum Instruction Time : 0

Correct Marks : 5 Wrong Marks : 1

Question Key Details :

Key	Value
Comprehension	Compl

निम्नलिखित पैराग्राफ को पढ़ें और नीचे दिए गए प्रश्न का उत्तर दें :

“ भारत ने 1976 में प्रभावशील हुई सिविल और राजनीतिक अधिकार अंतर्राष्ट्रीय प्रसंविदा को अधिसूचित किया है तथा प्रसंविदा की जरूरतों के अनुरूप निःशुल्क विधिक सहायता प्रदान करने के अंतर्राष्ट्रीय दायित्व से बंधा है। भारत के उच्चतम न्यायालय में अंतर्राष्ट्रीय विधिक दायित्वों को प्रभावशील करने की विधि को अंगीकृत किया है, जहाँ यह दायित्व भारतीय विधिक प्रणाली में स्पष्ट विद्यमान होते हैं, देश की विधि के भाग के रूप में भी अंतर्राष्ट्रीय विधिक दायित्वों को न्यायालय ने मान्यता प्रदान की है जहाँ भारतीय दायित्वों को न्यायालय ने मान्यता प्रदान की है जहाँ भारतीय विधि को अंतर्राष्ट्रीय विधि से सुसंगतता में सौहार्दपूर्ण रीति से व्याख्यायित किया जा सकता है।

राष्ट्रीय विधिक सहायता कार्यान्वयन समिति, 1980 का अध्यक्ष कौन था ?

- (1) न्यायमूर्ति कृष्णा अय्यर
- (2) न्यायमूर्ति सुब्बा राव
- (3) न्यायमूर्ति पी.एन. भगवती
- (4) न्यायमूर्ति चन्द्रचूड़

Options :

212807129237. 1

212807129238. 2
212807129239. 3
212807129240. 4

Sub-Section Number : 3
Sub-Section Id : 2128072535
Question Shuffling Allowed : No
Is Section Default? : null

Question Number : 831 Question Id : 21280732311 Question Type : MCQ Option Shuffling : No Is Question Mandatory : No Calculator : None
Response Time : N.A Think Time : N.A Minimum Instruction Time : 0

Correct Marks : 5 Wrong Marks : 1

Question Key Details :

Key	Value
Comprehension	Comp2

Read the following paragraph and answer the following question :

A source of law within a domestic legal system is easier to determine. Within the domestic system it is considered as something which is not too difficult a process, where one may look at the various legislation or statutes provided for, by the legislature and if there is a lacunae in the statute then decisions of the domestic courts. But, it is not so easy to pin point the sources of international law.

Most authoritative source of International law is :

- (1) Article 50 (1) Statute of ICJ
- (2) Article 20 (3) Statute of ICJ
- (3) Article 38 (1) Statute of ICJ
- (4) Article 22 (2) Statute of ICJ

Options :

212807129241. 1
212807129242. 2
212807129243. 3
212807129244. 4

Question Number : 831 Question Id : 21280732311 Question Type : MCQ Option Shuffling : No Is Question Mandatory : No Calculator : None
Response Time : N.A Think Time : N.A Minimum Instruction Time : 0

Correct Marks : 5 Wrong Marks : 1

Question Key Details :

Key	Value
Comprehension	Comp2

निम्नलिखित पैराग्राफ को पढ़ें और नीचे दिए गए प्रश्न का उत्तर दीजिए :

घरेलू विधिक प्रणाली में विधि के स्रोत का निर्धारण करना आसान है। घरेलू प्रणाली में इसे ऐसे रूप में देखा जाता है, जो एक कठिन प्रक्रिया नहीं है, जहाँ विधायिका द्वारा प्रदत्त विभिन्न विधानों और संविधियों पर दृष्टिपात किया जा सकता है, अगर संविधि में कोई कमी है तो घरेलू न्यायालयों के निर्णयों का अवलोकन किया जा सकता है। किन्तु अंतराष्ट्रीय विधि के स्रोतों को चिन्हित करना आसान नहीं है।

अंतराष्ट्रीय विधि का सबसे प्राधिकृत स्रोत है ?

- (1) आईसीजे की संविधि अनुच्छेद 50 (1)
- (2) आईसीजे की संविधि अनुच्छेद 20 (3)
- (3) आईसीजे की संविधि अनुच्छेद 38 (1)
- (4) आईसीजे की संविधि अनुच्छेद 22 (2)

Options :

212807129241. 1

212807129242. 2
212807129243. 3
212807129244. 4

Question Number : 832 Question Id : 21280732312 Question Type : MCQ Option Shuffling : No Is Question Mandatory : No Calculator : None
Response Time : N.A Think Time : N.A Minimum Instruction Time : 0

Correct Marks : 5 Wrong Marks : 1

Question Key Details :

Key	Value
Comprehension	Comp2

Read the following paragraph and answer the following question :

A source of law within a domestic legal system is easier to determine. Within the domestic system it is considered as something which is not too difficult a process, where one may look at the various legislation or statutes provided for, by the legislature and if there is a lacunae in the statute then decisions of the domestic courts. But, it is not so easy to pin point the sources of international law.

Find incorrect statement among the following :

- (1) Sources of domestic laws are easier to determine
- (2) Sources of International laws are difficult to determine
- (3) The provisions of the Statute of the ICJ suggests specific hierarchy of sources of International Law
- (4) Agreements which are between different nations but without the intentions of creating binding obligations are not considered as treaties

Options :

212807129245. 1
212807129246. 2
212807129247. 3
212807129248. 4

Question Number : 832 Question Id : 21280732312 Question Type : MCQ Option Shuffling : No Is Question Mandatory : No Calculator : None
Response Time : N.A Think Time : N.A Minimum Instruction Time : 0

Correct Marks : 5 Wrong Marks : 1

Question Key Details :

Key	Value
Comprehension	Comp2

निम्नलिखित पैराग्राफ को पढ़ें और नीचे दिए गए प्रश्न का उत्तर दीजिए :

घरेलू विधिक प्रणाली में विधि के स्रोत का निर्धारण करना आसान है। घरेलू प्रणाली में इसे ऐसे रूप में देखा जाता है, जो एक कठिन प्रक्रिया नहीं है, जहाँ विधायिका द्वारा प्रदत्त विभिन्न विधानों और संविधियों पर दृष्टिपात किया जा सकता है, अगर संविधि में कोई कमी है तो घरेलू न्यायालयों के निर्णयों का अवलोकन किया जा सकता है। किन्तु अंतरराष्ट्रीय विधि के स्रोतों को चिन्हित करना आसान नहीं है।

निम्नलिखित में से असत्य कथन ज्ञात करें ?

- (1) घरेलू विधि के स्रोत निर्धारित करना आसान है
- (2) अंतरराष्ट्रीय विधि के स्रोत निर्धारित करना कठिन है
- (3) आईसीजे की संविधि के उपबंध अंतरराष्ट्रीय विधि के स्रोतों की विशिष्ट सोपानिकी सुझाते हैं
- (4) विभिन्न राष्ट्रों के बीच ऐसे समझौते, जिनका आशय बाध्यकारी दायित्व सृजित करना नहीं है, संधि नहीं माने जाते हैं।

Options :

212807129245. 1
212807129246. 2

212807129247. 3
212807129248. 4

Question Number : 833 Question Id : 21280732313 Question Type : MCQ Option Shuffling : No Is Question Mandatory : No Calculator : None
Response Time : N.A Think Time : N.A Minimum Instruction Time : 0
Correct Marks : 5 Wrong Marks : 1

Question Key Details :

Key	Value
Comprehension	Comp2

Read the following paragraph and answer the following question :

A source of law within a domestic legal system is easier to determine. Within the domestic system it is considered as something which is not too difficult a process, where one may look at the various legislation or statutes provided for, by the legislature and if there is a lacunae in the statute then decisions of the domestic courts. But, it is not so easy to pin point the sources of international law.

According to which Article of the statute of the ICJ the decisions of the ICJ have no binding force on others except on the parties to the dispute :

- (1) Article 59
- (2) Article 38 (1)
- (3) Article 52
- (4) Article 28 (1)

Options :

212807129249. 1
212807129250. 2
212807129251. 3
212807129252. 4

Question Number : 833 Question Id : 21280732313 Question Type : MCQ Option Shuffling : No Is Question Mandatory : No Calculator : None
Response Time : N.A Think Time : N.A Minimum Instruction Time : 0
Correct Marks : 5 Wrong Marks : 1

Question Key Details :

Key	Value
Comprehension	Comp2

निम्नलिखित पैराग्राफ को पढ़ें और नीचे दिए गए प्रश्न का उत्तर दीजिए :

घरेलू विधिक प्रणाली में विधि के स्रोत का निर्धारण करना आसान है। घरेलू प्रणाली में इसे ऐसे रूप में देखा जाता है, जो एक कठिन प्रक्रिया नहीं है, जहाँ विधायिका द्वारा प्रदत्त विभिन्न विधानों और संविधियों पर दृष्टिपात किया जा सकता है, अगर संविधि में कोई कमी है तो घरेलू न्यायालयों के निर्णयों का अवलोकन किया जा सकता है। किन्तु अंतराष्ट्रीय विधि के स्रोतों को चिन्हित करना आसान नहीं है।

आईसीजे की संविधि के किस अनुच्छेद के अनुसार आईसीजे के निर्णय, विवाद के पक्षकारों के अलावा अन्य पर बाध्यकारी बल नहीं रखते हैं?

- (1) अनुच्छेद 59
- (2) अनुच्छेद 38 (1)
- (3) अनुच्छेद 52
- (4) अनुच्छेद 28 (1)

Options :

212807129249. 1
212807129250. 2
212807129251. 3

Question Number : 834 Question Id : 21280732314 Question Type : MCQ Option Shuffling : No Is Question Mandatory : No Calculator : None
Response Time : N.A Think Time : N.A Minimum Instruction Time : 0

Correct Marks : 5 Wrong Marks : 1

Question Key Details :

Key	Value
Comprehension	Comp2

Read the following paragraph and answer the following question :

A source of law within a domestic legal system is easier to determine. Within the domestic system it is considered as something which is not too difficult a process, where one may look at the various legislation or statutes provided for, by the legislature and if there is a lacunae in the statute then decisions of the domestic courts. But, it is not so easy to pin point the sources of international law.

Which one of the following is not considered as source of International laws ?

- (1) Treaties
- (2) Customs
- (3) Justice decisions of International Courts of Justice
- (4) PIL

Options :

212807129253. 1
212807129254. 2
212807129255. 3
212807129256. 4

Question Number : 834 Question Id : 21280732314 Question Type : MCQ Option Shuffling : No Is Question Mandatory : No Calculator : None
Response Time : N.A Think Time : N.A Minimum Instruction Time : 0

Correct Marks : 5 Wrong Marks : 1

Question Key Details :

Key	Value
Comprehension	Comp2

निम्नलिखित पैराग्राफ को पढ़ें और नीचे दिए गए प्रश्न का उत्तर दीजिए :

घरेलू विधिक प्रणाली में विधि के स्रोत का निर्धारण करना आसान है। घरेलू प्रणाली में इसे ऐसे रूप में देखा जाता है, जो एक कठिन प्रक्रिया नहीं है, जहाँ विधायिका द्वारा प्रदत्त विभिन्न विधानों और संविधियों पर दृष्टिपात किया जा सकता है, अगर संविधि में कोई कमी है तो घरेलू न्यायालयों के निर्णयों का अवलोकन किया जा सकता है। किन्तु अंतराष्ट्रीय विधि के स्रोतों को चिन्हित करना आसान नहीं है।

निम्नलिखित में से किसे अंतराष्ट्रीय विधियों का स्रोत नहीं माना जाता है ?

- (1) संधियाँ
- (2) प्रथाएँ
- (3) अंतराष्ट्रीय न्यायालय के न्यायिक निर्णय
- (4) पीआईएल (जनहित याचिका)

Options :

212807129253. 1
212807129254. 2
212807129255. 3
212807129256. 4

Question Number : 835 Question Id : 21280732315 Question Type : MCQ Option Shuffling : No Is Question Mandatory : No Calculator : None
Response Time : N.A Think Time : N.A Minimum Instruction Time : 0

Correct Marks : 5 Wrong Marks : 1

Question Key Details :

Key	Value
Comprehension	Comp2

Read the following paragraph and answer the following question :

A source of law within a domestic legal system is easier to determine. Within the domestic system it is considered as something which is not too difficult a process, where one may look at the various legislation or statutes provided for, by the legislature and if there is a lacunae in the statute then decisions of the domestic courts. But, it is not so easy to pin point the sources of international law.

Which of the following is not a way of expressing consent by a state to be bound by a treaty ?

- (1) Consent by signature
- (2) Consent by exchange of Instruments
- (3) Consent by Ratification
- (4) Consent by default

Options :

212807129257. 1
212807129258. 2
212807129259. 3
212807129260. 4

Question Number : 835 Question Id : 21280732315 Question Type : MCQ Option Shuffling : No Is Question Mandatory : No Calculator : None
Response Time : N.A Think Time : N.A Minimum Instruction Time : 0

Correct Marks : 5 Wrong Marks : 1

Question Key Details :

Key	Value
Comprehension	Comp2

निम्नलिखित पैराग्राफ को पढ़ें और नीचे दिए गए प्रश्न का उत्तर दीजिए :

घरेलू विधिक प्रणाली में विधि के स्रोत का निर्धारण करना आसान है। घरेलू प्रणाली में इसे ऐसे रूप में देखा जाता है, जो एक कठिन प्रक्रिया नहीं है, जहाँ विधायिका द्वारा प्रदत्त विभिन्न विधानों और संविधियों पर दृष्टिपात किया जा सकता है, अगर संविधि में कोई कमी है तो घरेलू न्यायालयों के निर्णयों का अवलोकन किया जा सकता है। किन्तु अंतरराष्ट्रीय विधि के स्रोतों को चिन्हित करना आसान नहीं है।

निम्नलिखित में से कौनसी किसी राज्य द्वारा, जो संधि द्वारा बंधा हुआ है, सहमति अभिव्यक्त करने की रीति नहीं है ?

- (1) हस्ताक्षर द्वारा सहमति
- (2) उपकरण विनियम द्वारा सहमति
- (3) अनुसमर्थन द्वारा सहमति
- (4) वितथी सहमति

Options :

212807129257. 1
212807129258. 2
212807129259. 3
212807129260. 4

Mass Media

Group Number :

23

Group Id :

212807747

Group Maximum Duration :

45

Group Minimum Duration : 45
Show Attended Group? : No
Edit Attended Group? : No
Break time : 0
Group Marks : 200
Is this Group for Examiner? : No
Examiner permission : Cant View
Show Progress Bar? : No

Mass Media

Section Id : 212807879
Section Number : 1
Section type : Online
Mandatory or Optional : Mandatory
Number of Questions : 50
Number of Questions to be attempted : 40
Section Marks : 200
Enable Mark as Answered Mark for Review and Clear Response : Yes
Maximum Instruction Time : 0
Sub-Section Number : 1
Sub-Section Id : 2128072536
Question Shuffling Allowed : Yes
Is Section Default? : null

Question Number : 836 Question Id : 21280732316 Question Type : MCQ Option Shuffling : No Is Question Mandatory : No Calculator : None
Response Time : N.A Think Time : N.A Minimum Instruction Time : 0

Correct Marks : 5 Wrong Marks : 1

Question Key Details :

Key	Value
Comprehension	MCQ

The French term Mis-en-Scene means :

- (1) Arranging for script writers
- (2) Staging an action
- (3) Staging a fashion show
- (4) Arranging for budget

Options :

212807129261. 1
212807129262. 2
212807129263. 3
212807129264. 4

Question Number : 836 Question Id : 21280732316 Question Type : MCQ Option Shuffling : No Is Question Mandatory : No Calculator : None
Response Time : N.A Think Time : N.A Minimum Instruction Time : 0

Correct Marks : 5 Wrong Marks : 1

Question Key Details :

Key	Value
Comprehension	MCQ

फ्रेंच शब्द Mis-en-Scene का अर्थ है :

- (1) स्क्रिप्ट राइटर्स/स्क्रिप्ट लेखकों की व्यवस्था करना
- (2) एक कार्य/एक्शन का मंचन
- (3) एक फैशन शो का मंचन
- (4) बजट की व्यवस्था करना

Options :

212807129261. 1

212807129262. 2
212807129263. 3
212807129264. 4

Question Number : 837 Question Id : 21280732317 Question Type : MCQ Option Shuffling : No Is Question Mandatory : No Calculator : None
Response Time : N.A Think Time : N.A Minimum Instruction Time : 0

Correct Marks : 5 Wrong Marks : 1

Question Key Details :

Key	Value
Comprehension	MCQ

Which among the following is NOT a news agency ?

- (1) PCI
- (2) AFP
- (3) DPA
- (4) AP

Options :

212807129265. 1
212807129266. 2
212807129267. 3
212807129268. 4

Question Number : 837 Question Id : 21280732317 Question Type : MCQ Option Shuffling : No Is Question Mandatory : No Calculator : None
Response Time : N.A Think Time : N.A Minimum Instruction Time : 0

Correct Marks : 5 Wrong Marks : 1

Question Key Details :

Key	Value
Comprehension	MCQ

निम्नलिखित में से कौन सी समाचार एजेंसी नहीं है ?

- (1) PCI - पी. सी. आई.
- (2) AFP - ए. एफ. पी.
- (3) DPA - डी. पी. ए.
- (4) AP - ए. पी.

Options :

212807129265. 1
212807129266. 2
212807129267. 3
212807129268. 4

Question Number : 838 Question Id : 21280732318 Question Type : MCQ Option Shuffling : No Is Question Mandatory : No Calculator : None
Response Time : N.A Think Time : N.A Minimum Instruction Time : 0

Correct Marks : 5 Wrong Marks : 1

Question Key Details :

Key	Value
Comprehension	MCQ

Cheque book Journalism implies that the subjects of the news stories are _____.

- (1) Forced to sell their confessions
- (2) Requested to sell their confessions
- (3) Bribed to sell their confessions
- (4) Threatened to sell their confessions

Options :

212807129269. 1
212807129270. 2

212807129271. 3
212807129272. 4

Question Number : 838 Question Id : 21280732318 Question Type : MCQ Option Shuffling : No Is Question Mandatory : No Calculator : None
Response Time : N.A Think Time : N.A Minimum Instruction Time : 0
Correct Marks : 5 Wrong Marks : 1

Question Key Details :

Key	Value
Comprehension	MCQ

चेक बुक पत्रकारिता (Journalism) से तात्पर्य है कि न्यूज स्टोरी का विषय _____ है।

- (1) उनको स्वीकृति बेचने को मजबूर करते हैं
- (2) स्वीकृति बेचने का निवेदन करते हैं
- (3) स्वीकृति बेचने के लिये रिश्वत देते हैं
- (4) स्वीकृति बेचने के लिए धमकी देते हैं

Options :

212807129269. 1
212807129270. 2
212807129271. 3
212807129272. 4

Question Number : 839 Question Id : 21280732319 Question Type : MCQ Option Shuffling : No Is Question Mandatory : No Calculator : None
Response Time : N.A Think Time : N.A Minimum Instruction Time : 0
Correct Marks : 5 Wrong Marks : 1

Question Key Details :

Key	Value
Comprehension	MCQ

The terms *celluloid* refers to/is used for :

- (1) TV
- (2) Youtube
- (3) Facebook Page
- (4) Cinema

Options :

212807129273. 1
212807129274. 2
212807129275. 3
212807129276. 4

Question Number : 839 Question Id : 21280732319 Question Type : MCQ Option Shuffling : No Is Question Mandatory : No Calculator : None
Response Time : N.A Think Time : N.A Minimum Instruction Time : 0
Correct Marks : 5 Wrong Marks : 1

Question Key Details :

Key	Value
Comprehension	MCQ

शब्द *celluloid* (सैल्यूलॉइड) किस लिये प्रयुक्त होता है :

- (1) टी.वी.
- (2) यू ट्यूब
- (3) फेसबुक पेज
- (4) सिनेमा

Options :

212807129273. 1
212807129274. 2
212807129275. 3
212807129276. 4

Question Number : 840 Question Id : 21280732320 Question Type : MCQ Option Shuffling : No Is Question Mandatory : No Calculator : None
Response Time : N.A Think Time : N.A Minimum Instruction Time : 0

Correct Marks : 5 Wrong Marks : 1

Question Key Details :

Key	Value
Comprehension	MCQ

A short article written in a light vein on the editorial page is called :

- (1) Editorial
- (2) News story
- (3) Lead story
- (4) Middle

Options :

212807129277. 1
212807129278. 2
212807129279. 3
212807129280. 4

Question Number : 840 Question Id : 21280732320 Question Type : MCQ Option Shuffling : No Is Question Mandatory : No Calculator : None
Response Time : N.A Think Time : N.A Minimum Instruction Time : 0

Correct Marks : 5 Wrong Marks : 1

Question Key Details :

Key	Value
Comprehension	MCQ

संपादकीय पृष्ठ पर हल्के-फुल्के अंदाज में लिखे गये छोटे लेख को कहते हैं :

- (1) संपादकीय
- (2) न्यूज़ स्टोरी
- (3) लीड स्टोरी
- (4) मिडल

Options :

212807129277. 1
212807129278. 2
212807129279. 3
212807129280. 4

Question Number : 841 Question Id : 21280732321 Question Type : MCQ Option Shuffling : No Is Question Mandatory : No Calculator : None
Response Time : N.A Think Time : N.A Minimum Instruction Time : 0

Correct Marks : 5 Wrong Marks : 1

Question Key Details :

Key	Value
Comprehension	MCQ

Who is the author of the book '1984' ?

- (1) George Orwell
- (2) David Lean
- (3) Ang Lee
- (4) Rupert Murdoch

Options :

212807129281. 1
212807129282. 2
212807129283. 3
212807129284. 4

Question Number : 841 Question Id : 21280732321 Question Type : MCQ Option Shuffling : No Is Question Mandatory : No Calculator : None
Response Time : N.A Think Time : N.A Minimum Instruction Time : 0

Correct Marks : 5 Wrong Marks : 1

Question Key Details :

Key	Value
Comprehension	MCQ

पुस्तक 1984 का लेखक कौन है?

- (1) जॉर्ज ऑरवेल (George Orwell)
- (2) डेविड लीन (David Lean)
- (3) एंग ली (Ang Lee)
- (4) रूपर्ट मर्डोक (Rupert Murdoch)

Options :

212807129281. 1
212807129282. 2
212807129283. 3
212807129284. 4

Question Number : 842 Question Id : 21280732322 Question Type : MCQ Option Shuffling : No Is Question Mandatory : No Calculator : None
Response Time : N.A Think Time : N.A Minimum Instruction Time : 0

Correct Marks : 5 Wrong Marks : 1

Question Key Details :

Key	Value
Comprehension	MCQ

What is the average duration of a Radio Drama ?

- (1) 30 - 60 minutes
- (2) 15 - 20 minutes
- (3) 10 - 15 minutes
- (4) 1 - 2 hours

Options :

212807129285. 1
212807129286. 2
212807129287. 3
212807129288. 4

Question Number : 842 Question Id : 21280732322 Question Type : MCQ Option Shuffling : No Is Question Mandatory : No Calculator : None
Response Time : N.A Think Time : N.A Minimum Instruction Time : 0

Correct Marks : 5 Wrong Marks : 1

Question Key Details :

Key	Value
Comprehension	MCQ

रेडियो नाटक की औसत अवधि क्या है?

- (1) 30 - 60 मिनट
- (2) 15 - 20 मिनट
- (3) 10 - 15 मिनट
- (4) 1 - 2 घंटे

Options :

- 212807129285. 1
- 212807129286. 2
- 212807129287. 3
- 212807129288. 4

Question Number : 843 Question Id : 21280732323 Question Type : MCQ Option Shuffling : No Is Question Mandatory : No Calculator : None Response Time : N.A Think Time : N.A Minimum Instruction Time : 0

Correct Marks : 5 Wrong Marks : 1

Question Key Details :

Key	Value
Comprehension	MCQ

Which of the following is not an image file format ?

- (1) JPEG
- (2) GIF
- (3) JFIF
- (4) HTML

Options :

- 212807129289. 1
- 212807129290. 2
- 212807129291. 3
- 212807129292. 4

Question Number : 843 Question Id : 21280732323 Question Type : MCQ Option Shuffling : No Is Question Mandatory : No Calculator : None Response Time : N.A Think Time : N.A Minimum Instruction Time : 0

Correct Marks : 5 Wrong Marks : 1

Question Key Details :

Key	Value
Comprehension	MCQ

निम्न में से कौन-सा एक इमेज फाइल का फॉर्मेट नहीं है ?

- (1) JPEG
- (2) GIF
- (3) JFIF
- (4) HTML

Options :

- 212807129289. 1
- 212807129290. 2
- 212807129291. 3
- 212807129292. 4

Question Number : 844 Question Id : 21280732324 Question Type : MCQ Option Shuffling : No Is Question Mandatory : No Calculator : None Response Time : N.A Think Time : N.A Minimum Instruction Time : 0

Correct Marks : 5 Wrong Marks : 1

Question Key Details :

Key	Value
Comprehension	MCQ

The first doctoral thesis on practices in Journalism submitted to the University of Leipzig was entitled :

- (1) On Reporting and Editing
- (2) On News Reporting
- (3) On News Gathering
- (4) On Breaking News

Options :

212807129293. 1
212807129294. 2
212807129295. 3
212807129296. 4

Question Number : 844 Question Id : 21280732324 Question Type : MCQ Option Shuffling : No Is Question Mandatory : No Calculator : None
Response Time : N.A Think Time : N.A Minimum Instruction Time : 0

Correct Marks : 5 Wrong Marks : 1

Question Key Details :

Key	Value
Comprehension	MCQ

University of Leipzig में जमा पत्रकारिता में परंपरा/परिपाटी पर पहली डॉक्टरल थीसिस _____ थी।

- (1) समाचार प्रेषण और संपादन पर
- (2) समाचार प्रेषण पर
- (3) समाचारों का जमाव/इकट्ठा करने पर
- (4) ब्रेकिंग न्यूज़ पर

Options :

212807129293. 1
212807129294. 2
212807129295. 3
212807129296. 4

Question Number : 845 Question Id : 21280732325 Question Type : MCQ Option Shuffling : No Is Question Mandatory : No Calculator : None
Response Time : N.A Think Time : N.A Minimum Instruction Time : 0

Correct Marks : 5 Wrong Marks : 1

Question Key Details :

Key	Value
Comprehension	MCQ

In a newspaper organisation Ombudsman is also known as the :

- (1) Wire editor
- (2) Reader's editor
- (3) Sub-editor
- (4) Administrative editor

Options :

212807129297. 1
212807129298. 2
212807129299. 3
212807129300. 4

Question Number : 845 Question Id : 21280732325 Question Type : MCQ Option Shuffling : No Is Question Mandatory : No Calculator : None
Response Time : N.A Think Time : N.A Minimum Instruction Time : 0

Correct Marks : 5 Wrong Marks : 1

Question Key Details :

Key	Value
Comprehension	MCQ

ओम्बड्समैन को एक समाचार पत्र समूह का _____ की तरह भी जाना जाता है :

- (1) वायर संपादक
- (2) पाठकों का संपादक
- (3) उप संपादक
- (4) प्रशासनिक संपादक

Options :

- 212807129297. 1
- 212807129298. 2
- 212807129299. 3
- 212807129300. 4

Question Number : 846 Question Id : 21280732326 Question Type : MCQ Option Shuffling : No Is Question Mandatory : No Calculator : None Response Time : N.A Think Time : N.A Minimum Instruction Time : 0

Correct Marks : 5 Wrong Marks : 1

Question Key Details :

Key	Value
Comprehension	MCQ

The process of communication is :

- (1) Linear
- (2) One-way
- (3) Triangular
- (4) Cyclic

Options :

- 212807129301. 1
- 212807129302. 2
- 212807129303. 3
- 212807129304. 4

Question Number : 846 Question Id : 21280732326 Question Type : MCQ Option Shuffling : No Is Question Mandatory : No Calculator : None Response Time : N.A Think Time : N.A Minimum Instruction Time : 0

Correct Marks : 5 Wrong Marks : 1

Question Key Details :

Key	Value
Comprehension	MCQ

संचार की प्रक्रिया है :

- (1) रेखीय
- (2) एक तरफा (One-way)
- (3) त्रिकोणीय
- (4) चक्रीय

Options :

- 212807129301. 1
- 212807129302. 2
- 212807129303. 3
- 212807129304. 4

Question Number : 847 Question Id : 21280732327 Question Type : MCQ Option Shuffling : No Is Question Mandatory : No Calculator : None Response Time : N.A Think Time : N.A Minimum Instruction Time : 0

Correct Marks : 5 Wrong Marks : 1

Question Key Details :

Key	Value
Comprehension	MCQ

The Soap Opera 'Hum Log' was sponsored by :

- (1) Surf
- (2) Two Minute Noodles
- (3) Coca Cola
- (4) MDH

Options :

212807129305. 1
212807129306. 2
212807129307. 3
212807129308. 4

Question Number : 847 Question Id : 21280732327 Question Type : MCQ Option Shuffling : No Is Question Mandatory : No Calculator : None
Response Time : N.A Think Time : N.A Minimum Instruction Time : 0

Correct Marks : 5 Wrong Marks : 1

Question Key Details :

Key	Value
Comprehension	MCQ

धारावाहिक 'हम लोग' _____ के द्वारा प्रायोजित था।

- (1) सर्फ
- (2) दो मिनट नूडल्स
- (3) कोका कोला
- (4) एम डी एच

Options :

212807129305. 1
212807129306. 2
212807129307. 3
212807129308. 4

Question Number : 848 Question Id : 21280732328 Question Type : MCQ Option Shuffling : No Is Question Mandatory : No Calculator : None
Response Time : N.A Think Time : N.A Minimum Instruction Time : 0

Correct Marks : 5 Wrong Marks : 1

Question Key Details :

Key	Value
Comprehension	MCQ

Globalization, Regionalisation and Democratisation are the views of :

- (1) Majid Tehranian
- (2) Amartya Sen
- (3) Marshall McLuhan
- (4) Walter Lippmann

Options :

212807129309. 1
212807129310. 2
212807129311. 3
212807129312. 4

Question Number : 848 Question Id : 21280732328 Question Type : MCQ Option Shuffling : No Is Question Mandatory : No Calculator : None
Response Time : N.A Think Time : N.A Minimum Instruction Time : 0

Correct Marks : 5 Wrong Marks : 1

Question Key Details :

Key	Value
Comprehension	MCQ

वैश्वीकरण, क्षेत्रीयकरण और लोकातांत्रिककरण _____ का दृष्टिकोण है।

- (1) माजिद तेहरानियन (Majid Tehrarian)
- (2) अमर्त्य सेन (Amartya Sen)
- (3) मार्शल मैकलुहान
- (4) वालटर लिपमैन

Options :

- 212807129309. 1
- 212807129310. 2
- 212807129311. 3
- 212807129312. 4

Question Number : 849 Question Id : 21280732329 Question Type : MCQ Option Shuffling : No Is Question Mandatory : No Calculator : None
Response Time : N.A Think Time : N.A Minimum Instruction Time : 0

Correct Marks : 5 Wrong Marks : 1

Question Key Details :

Key	Value
Comprehension	MCQ

Arrange the following films in chronological order, according to year of release, beginning from the first.

- (A) Lagaan
- (B) Salaam Bombay
- (C) Mother India
- (D) RRR

Choose the correct answer from the options given below :

- (1) (A), (B), (C), (D)
- (2) (D), (A), (B), (C)
- (3) (C), (B), (A), (D)
- (4) (C), (D), (A), (B)

Options :

- 212807129313. 1
- 212807129314. 2
- 212807129315. 3
- 212807129316. 4

Question Number : 849 Question Id : 21280732329 Question Type : MCQ Option Shuffling : No Is Question Mandatory : No Calculator : None
Response Time : N.A Think Time : N.A Minimum Instruction Time : 0

Correct Marks : 5 Wrong Marks : 1

Question Key Details :

Key	Value
Comprehension	MCQ

निम्नलिखित फिल्मों को उनके रिलीज वर्ष के अनुसार प्रथम से सही क्रम में लगाइये।

- (A) लगान
- (B) सलाम बॉम्बे
- (C) मदर इंडिया
- (D) RRR

नीचे दिए गए विकल्पों में से सही उत्तर का चयन कीजिए:

- (1) (A), (B), (C), (D)
- (2) (D), (A), (B), (C)
- (3) (C), (B), (A), (D)
- (4) (C), (D), (A), (B)

Options :

- 212807129313. 1
- 212807129314. 2
- 212807129315. 3

Question Number : 850 Question Id : 21280732330 Question Type : MCQ Option Shuffling : No Is Question Mandatory : No Calculator : None
Response Time : N.A Think Time : N.A Minimum Instruction Time : 0

Correct Marks : 5 Wrong Marks : 1

Question Key Details :

Key	Value
Comprehension	MCQ

Who coined the phrase 'Medium is the message' ?

- (1) Marshall McLuhan
- (2) Elihu Katz
- (3) Noam Chomsky
- (4) Paul Lazarsfeld

Options :

212807129317.1

212807129318.2

212807129319.3

212807129320.4

Question Number : 850 Question Id : 21280732330 Question Type : MCQ Option Shuffling : No Is Question Mandatory : No Calculator : None
Response Time : N.A Think Time : N.A Minimum Instruction Time : 0

Correct Marks : 5 Wrong Marks : 1

Question Key Details :

Key	Value
Comprehension	MCQ

'माध्यम संदेश है' वाक्यांश किसने गढ़ा ?

- (1) मार्शल मैकलुहान
- (2) एलिहू काटज़
- (3) नोम चॉम्स्की
- (4) पॉल लाजार्सफ़ेल्ड

Options :

212807129317.1

212807129318.2

212807129319.3

212807129320.4

Question Number : 851 Question Id : 21280732331 Question Type : MCQ Option Shuffling : No Is Question Mandatory : No Calculator : None
Response Time : N.A Think Time : N.A Minimum Instruction Time : 0

Correct Marks : 5 Wrong Marks : 1

Question Key Details :

Key	Value
Comprehension	MCQ

Krishi Darshan was a community TV viewing project directed at farmers of which state ?

- (1) Punjab
- (2) Delhi
- (3) Haryana
- (4) Uttar Pradesh

Options :

212807129321.1

212807129322.2

212807129323.3

Question Number : 851 Question Id : 21280732331 Question Type : MCQ Option Shuffling : No Is Question Mandatory : No Calculator : None
Response Time : N.A Think Time : N.A Minimum Instruction Time : 0

Correct Marks : 5 Wrong Marks : 1

Question Key Details :

Key	Value
Comprehension	MCQ

कृषि दर्शन किस राज्य के किसानों पर निर्देशित एक सामुदायिक टी वी दृश्य (community TV viewing) परियोजना थी।

- (1) पंजाब
- (2) दिल्ली
- (3) हरियाणा
- (4) उत्तर प्रदेश

Options :

212807129321. 1
212807129322. 2
212807129323. 3
212807129324. 4

Question Number : 852 Question Id : 21280732332 Question Type : MCQ Option Shuffling : No Is Question Mandatory : No Calculator : None
Response Time : N.A Think Time : N.A Minimum Instruction Time : 0

Correct Marks : 5 Wrong Marks : 1

Question Key Details :

Key	Value
Comprehension	MCQ

The Internet's primary transmission method is :

- (1) Multi-cast
- (2) Telecast
- (3) Broadcast
- (4) Unicast

Options :

212807129325. 1
212807129326. 2
212807129327. 3
212807129328. 4

Question Number : 852 Question Id : 21280732332 Question Type : MCQ Option Shuffling : No Is Question Mandatory : No Calculator : None
Response Time : N.A Think Time : N.A Minimum Instruction Time : 0

Correct Marks : 5 Wrong Marks : 1

Question Key Details :

Key	Value
Comprehension	MCQ

इंटरनेट की प्राथमिक संचरण विधि है :

- (1) बहु-लागत (Multi-cast)
- (2) टेली कास्ट (Telecast)
- (3) ब्रॉड कास्ट (Broadcast)
- (4) यूनिकास्ट (Unicast)

Options :

212807129325. 1
212807129326. 2

212807129327. 3
212807129328. 4

Question Number : 853 Question Id : 21280732333 Question Type : MCQ Option Shuffling : No Is Question Mandatory : No Calculator : None
Response Time : N.A Think Time : N.A Minimum Instruction Time : 0
Correct Marks : 5 Wrong Marks : 1

Question Key Details :

Key	Value
Comprehension	MCQ

Libertarian Theory is also known as :

- (1) Democratic Participant Theory
- (2) Free Press Theory
- (3) Authoritarian Theory
- (4) Social Responsibility Theory

Options :

212807129329. 1
212807129330. 2
212807129331. 3
212807129332. 4

Question Number : 853 Question Id : 21280732333 Question Type : MCQ Option Shuffling : No Is Question Mandatory : No Calculator : None
Response Time : N.A Think Time : N.A Minimum Instruction Time : 0

Correct Marks : 5 Wrong Marks : 1

Question Key Details :

Key	Value
Comprehension	MCQ

उदारवादी सिद्धांत _____ के रूप में भी जाना जाता है :

- (1) लोकतांत्रिक भागीदारी का सिद्धांत
- (2) मुक्त प्रेस (Press) सिद्धांत
- (3) अधिनायकवादी सिद्धांत
- (4) सामाजिक जवाबदेही का सिद्धांत /सामाजिक जिम्मेदारी का सिद्धांत

Options :

212807129329. 1
212807129330. 2
212807129331. 3
212807129332. 4

Question Number : 854 Question Id : 21280732334 Question Type : MCQ Option Shuffling : No Is Question Mandatory : No Calculator : None
Response Time : N.A Think Time : N.A Minimum Instruction Time : 0

Correct Marks : 5 Wrong Marks : 1

Question Key Details :

Key	Value
Comprehension	MCQ

What is the full form of IP in the Internet communication system ?

- (1) Indian Protocol
- (2) Information Protocol
- (3) International Protocol
- (4) Internet Protocol

Options :

212807129333. 1
212807129334. 2
212807129335. 3

Question Number : 854 Question Id : 21280732334 Question Type : MCQ Option Shuffling : No Is Question Mandatory : No Calculator : None
Response Time : N.A Think Time : N.A Minimum Instruction Time : 0

Correct Marks : 5 Wrong Marks : 1

Question Key Details :

Key	Value
Comprehension	MCQ

इंटरनेट संचार प्रणाली में 'आईपी' की फुलफॉर्म क्या है ?

- (1) इंडियन प्रोटोकॉल
- (2) इंफोर्मेशन प्रोटोकॉल
- (3) इंटरनेशनल प्रोटोकॉल
- (4) इंटरनेट प्रोटोकॉल

Options :

212807129333. 1
212807129334. 2
212807129335. 3
212807129336. 4

Question Number : 855 Question Id : 21280732335 Question Type : MCQ Option Shuffling : No Is Question Mandatory : No Calculator : None
Response Time : N.A Think Time : N.A Minimum Instruction Time : 0

Correct Marks : 5 Wrong Marks : 1

Question Key Details :

Key	Value
Comprehension	MCQ

Arrange the following educational projects in a chronological order, beginning from the first :

- (A) SITE
- (B) Krishi Darshan
- (C) IGNOU
- (D) Gyan Darshan
- (E) INSAT

Choose the **correct** answer from the options given below :

- (1) (C), (E), (B), (A), (D)
- (2) (A), (C), (B), (D), (E)
- (3) (B), (A), (E), (C), (D)
- (4) (D), (B), (C), (A), (E)

Options :

212807129337. 1
212807129338. 2
212807129339. 3
212807129340. 4

Question Number : 855 Question Id : 21280732335 Question Type : MCQ Option Shuffling : No Is Question Mandatory : No Calculator : None
Response Time : N.A Think Time : N.A Minimum Instruction Time : 0

Correct Marks : 5 Wrong Marks : 1

Question Key Details :

Key	Value
Comprehension	MCQ

निम्न शैक्षिक परियोजनाओं को प्रथम से प्रारंभ करते हुए कालक्रमिक रूप से व्यवस्थित कीजिए।

- (A) SITE
- (B) कृषि दर्शन
- (C) IGNOU
- (D) ज्ञान दर्शन
- (E) INSAT

नीचे दिए गए विकल्पों में से सही उत्तर का चयन कीजिए:

- (1) (C), (E), (B), (A), (D)
- (2) (A), (C), (B), (D), (E)
- (3) (B), (A), (E), (C), (D)
- (4) (D), (B), (C), (A), (E)

Options :

- 212807129337. 1
- 212807129338. 2
- 212807129339. 3
- 212807129340. 4

Question Number : 856 Question Id : 21280732336 Question Type : MCQ Option Shuffling : No Is Question Mandatory : No Calculator : None
Response Time : N.A Think Time : N.A Minimum Instruction Time : 0

Correct Marks : 5 Wrong Marks : 1

Question Key Details :

Key	Value
Comprehension	MCQ

Match the contributors with the media they work in :

List - I

List - II

- (A) Reporters, Sub-editor (I) Cinema
- (B) Cinematographer, Actor (II) Newspaper
- (C) Copywriter, Art Director (III) Radio
- (D) RJ and Sound Technician (IV) Advertising

Choose the correct answer from the options given below :

- (1) (A)-(I), (B)-(II), (C)-(III), (D)-(IV)
- (2) (A)-(II), (B)-(I), (C)-(IV), (D)-(III)
- (3) (A)-(IV), (B)-(III), (C)-(II), (D)-(I)
- (4) (A)-(III), (B)-(II), (C)-(I), (D)-(IV)

Options :

- 212807129341. 1
- 212807129342. 2
- 212807129343. 3
- 212807129344. 4

Question Number : 856 Question Id : 21280732336 Question Type : MCQ Option Shuffling : No Is Question Mandatory : No Calculator : None
Response Time : N.A Think Time : N.A Minimum Instruction Time : 0

Correct Marks : 5 Wrong Marks : 1

Question Key Details :

Key	Value
Comprehension	MCQ

सहयोगियों/सहायकों को, जिस मीडिया में वे कार्य करते हैं, के साथ सम्मिलित कीजिए :

सूची - I

- (A) पत्रकार, उप संपादक
(B) सिनेमेटोग्राफर, एक्टर
(C) विज्ञापन लेखक, कला निदेशक
(D) RJ और ध्वनि (साउंड) तकनीशियन

सूची - II

- (I) सिनेमा
(II) अखबार
(III) रेडियो
(IV) विज्ञापन

नीचे दिए गए विकल्पों में से **सही उत्तर** का चयन कीजिए:

- (1) (A)-(I), (B)-(II), (C)-(III), (D)-(IV)
(2) (A)-(II), (B)-(I), (C)-(IV), (D)-(III)
(3) (A)-(IV), (B)-(III), (C)-(II), (D)-(I)
(4) (A)-(III), (B)-(II), (C)-(I), (D)-(IV)

Options :

212807129341. 1
212807129342. 2
212807129343. 3
212807129344. 4

Question Number : 857 Question Id : 21280732337 Question Type : MCQ Option Shuffling : No Is Question Mandatory : No Calculator : None Response Time : N.A Think Time : N.A Minimum Instruction Time : 0

Correct Marks : 5 Wrong Marks : 1

Question Key Details :

Key	Value
Comprehension	MCQ

Which of the following are correct about films and directors ?

- (A) Shyam Benegal directed the film 'Rabindranath Tagore'
(B) K. Asif directed the film 'Charulata'
(C) Kundan Shah directed the film 'Aparajito'
(D) Satish Manwar directed the film 'Gabhricha Paus'
(E) Pratap Sharma directed the film 'Framework of Famine'

Choose the correct answer from the options given below :

- (1) (A), (B) and (C) only
(2) (B), (C) and (D) only
(3) (D) and (E) only
(4) (A) and (D) only

Options :

212807129345. 1
212807129346. 2
212807129347. 3
212807129348. 4

Question Number : 857 Question Id : 21280732337 Question Type : MCQ Option Shuffling : No Is Question Mandatory : No Calculator : None Response Time : N.A Think Time : N.A Minimum Instruction Time : 0

Correct Marks : 5 Wrong Marks : 1

Question Key Details :

Key	Value
Comprehension	MCQ

निम्नलिखित में से कौन सा सही है ?

- (A) श्याम बेनेगल ने फिल्म 'रवीन्द्रनाथ टैगोर' का निर्देशन किया
- (B) के. आसिफ ने फिल्म 'चारूलता' का निर्देशन किया
- (C) कुन्दनशाह ने फिल्म 'अपराजितो' का निर्देशन किया
- (D) सतीश मनवार ने फिल्म 'गभरीचा पौस' का निर्देशन किया
- (E) प्रताप वर्मा ने फिल्म 'प्रेमवर्क ऑफ फेमिन' का निर्देशन किया

नीचे दिए गए विकल्पों में से सही उत्तर का चयन कीजिए:

- (1) केवल (A), (B) और (C)
- (2) केवल (B), (C) और (D)
- (3) केवल (D) और (E)
- (4) केवल (A) और (D)

Options :

- 212807129345. 1
- 212807129346. 2
- 212807129347. 3
- 212807129348. 4

Question Number : 858 Question Id : 21280732338 Question Type : MCQ Option Shuffling : No Is Question Mandatory : No Calculator : None Response Time : N.A Think Time : N.A Minimum Instruction Time : 0

Correct Marks : 5 Wrong Marks : 1

Question Key Details :

Key	Value
Comprehension	MCQ

Match the organisations with the year of their establishment :

List - I

List - II

- (A) PTI (I) 1960
- (B) CBFC (II) 1954
- (C) Sahitya Akademi (III) 1952
- (D) FTII (IV) 1947

Choose the correct answer from the options given below :

- (1) (A)-(I), (B)-(II), (C)-(III), (D)-(IV)
- (2) (A)-(II), (B)-(III), (C)-(IV), (D)-(I)
- (3) (A)-(IV), (B)-(III), (C)-(II), (D)-(I)
- (4) (A)-(III), (B)-(IV), (C)-(I), (D)-(II)

Options :

- 212807129349. 1
- 212807129350. 2
- 212807129351. 3
- 212807129352. 4

Question Number : 858 Question Id : 21280732338 Question Type : MCQ Option Shuffling : No Is Question Mandatory : No Calculator : None Response Time : N.A Think Time : N.A Minimum Instruction Time : 0

Correct Marks : 5 Wrong Marks : 1

Question Key Details :

Key	Value
Comprehension	MCQ

संगठनों को उनके स्थापना वर्ष से सम्मिलित कीजिए :

सूची-I	सूची-II
(A) PTI	(I) 1960
(B) CBFC	(II) 1954
(C) साहित्य अकादमी	(III) 1952
(D) FTII	(IV) 1947

नीचे दिए गए विकल्पों में से सही उत्तर का चयन कीजिए:

- (1) (A)-(I), (B)-(II), (C)-(III), (D)-(IV)
- (2) (A)-(II), (B)-(III), (C)-(IV), (D)-(I)
- (3) (A)-(IV), (B)-(III), (C)-(II), (D)-(I)
- (4) (A)-(III), (B)-(IV), (C)-(I), (D)-(II)

Options :

212807129349. 1
212807129350. 2
212807129351. 3
212807129352. 4

Question Number : 859 Question Id : 21280732339 Question Type : MCQ Option Shuffling : No Is Question Mandatory : No Calculator : None
Response Time : N.A Think Time : N.A Minimum Instruction Time : 0

Correct Marks : 5 Wrong Marks : 1

Question Key Details :

Key	Value
Comprehension	MCQ

Who was the first Indian to enter the 'CLIO Hall of Fame' for a public service film ?

- (1) Satyajit Ray
- (2) Shyam Benegal
- (3) Ramesh Sippy
- (4) Alyque Padamsee

Options :

212807129353. 1
212807129354. 2
212807129355. 3
212807129356. 4

Question Number : 859 Question Id : 21280732339 Question Type : MCQ Option Shuffling : No Is Question Mandatory : No Calculator : None
Response Time : N.A Think Time : N.A Minimum Instruction Time : 0

Correct Marks : 5 Wrong Marks : 1

Question Key Details :

Key	Value
Comprehension	MCQ

अपनी सार्वजनिक/लोक सेवा फिल्म के लिये 'CLIO हॉल ऑफ़ फेम' में प्रवेश पाने वाले पहले भारतीय कौन थे ?

- (1) सत्यजीत राय
- (2) श्याम बेनेगल
- (3) रमेश सिप्पी
- (4) अलक पद्मसी (Alyque Padamsee)

Options :

212807129353. 1

212807129354. 2
212807129355. 3
212807129356. 4

Question Number : 860 Question Id : 21280732340 Question Type : MCQ Option Shuffling : No Is Question Mandatory : No Calculator : None
Response Time : N.A Think Time : N.A Minimum Instruction Time : 0

Correct Marks : 5 Wrong Marks : 1

Question Key Details :

Key	Value
Comprehension	MCQ

Match the items of List - I with the categories mentioned the List - II.

List - I

- (A) Long shot, Medium shot, Close-up
(B) Pan, Tilt, Track
(C) High, Low, Eye line
(D) Wide angle, Telephoto, Normal

List - II

- (I) Camera movement
(II) Image size
(III) Lenses
(IV) View Point

Choose the correct answer from the options given below :

- (1) (A)-(I), (B)-(II), (C)-(III), (D)-(IV)
(2) (A)-(II), (B)-(III), (C)-(IV), (D)-(I)
(3) (A)-(II), (B)-(I), (C)-(IV), (D)-(III)
(4) (A)-(IV), (B)-(III), (C)-(II), (D)-(I)

Options :

212807129357. 1
212807129358. 2
212807129359. 3
212807129360. 4

Question Number : 860 Question Id : 21280732340 Question Type : MCQ Option Shuffling : No Is Question Mandatory : No Calculator : None
Response Time : N.A Think Time : N.A Minimum Instruction Time : 0

Correct Marks : 5 Wrong Marks : 1

Question Key Details :

Key	Value
Comprehension	MCQ

सूची-I से सूचीबद्ध वस्तुओं को सूची-II में दी गई उनकी श्रेणियों के साथ सूचीबद्ध करें।

सूची-I

- (A) लंबा शॉट, मीडियम शॉट, क्लॉज अप
(B) पैन, टिल्ट, ट्रैक (Pan, Tilt, Track)
(C) हाई, लॉ, आई लाइन (High, Low, Eye line)
(D) वाइड एंगल, टेलीफोटो, सामान्य

सूची-II

- (I) कैमरे का संचालन
(II) फोटो आकार
(III) लेंस
(IV) देखने का बिंदु/स्थल

नीचे दिए गए विकल्पों में से सही उत्तर का चयन कीजिए:

- (1) (A)-(I), (B)-(II), (C)-(III), (D)-(IV)
(2) (A)-(II), (B)-(III), (C)-(IV), (D)-(I)
(3) (A)-(II), (B)-(I), (C)-(IV), (D)-(III)
(4) (A)-(IV), (B)-(III), (C)-(II), (D)-(I)

Options :

212807129357. 1
212807129358. 2
212807129359. 3

Question Number : 861 Question Id : 21280732341 Question Type : MCQ Option Shuffling : No Is Question Mandatory : No Calculator : None
Response Time : N.A Think Time : N.A Minimum Instruction Time : 0

Correct Marks : 5 Wrong Marks : 1

Question Key Details :

Key	Value
Comprehension	MCQ

Match List - I with categories mentioned in List - II.

List - I

- (A) Broadsheet, Tabloid, Berliner
(B) Big Boss, Roadies, Khatroon Ke Khiladi
(C) Humlog, Nukkad, Circus
(D) Ramayan, Mahabharata, Chandrakanta

List - II

- (I) Reality TV Shows
(II) Newspapers
(III) Mythological Shows
(IV) Soap Operas

Choose the correct answer from the options given below :

- (1) (A)-(III), (B)-(IV), (C)-(I), (D)-(II)
(2) (A)-(I), (B)-(II), (C)-(III), (D)-(IV)
(3) (A)-(II), (B)-(I), (C)-(IV), (D)-(III)
(4) (A)-(IV), (B)-(III), (C)-(II), (D)-(I)

Options :

212807129361. 1
212807129362. 2
212807129363. 3
212807129364. 4

Question Number : 861 Question Id : 21280732341 Question Type : MCQ Option Shuffling : No Is Question Mandatory : No Calculator : None
Response Time : N.A Think Time : N.A Minimum Instruction Time : 0

Correct Marks : 5 Wrong Marks : 1

Question Key Details :

Key	Value
Comprehension	MCQ

सूची-I से सूची-II में दी गई उसकी श्रेणियों के साथ मिलान कीजिए:

सूची-I

- (A) ब्रॉडशीट, टेब्लॉइड, बेरलाईनर
(B) बिग बॉस, रोडीज़, खतरों के खिलाड़ी
(C) हम लोग, नुक्कड़, सर्कस
(D) रामायण, महाभारत, चन्द्रकांता

सूची-II

- (I) रियलिटी TV शो
(II) समाचार पत्र
(III) पौराणिक कार्यक्रम/शो
(IV) धारावाहिक

नीचे दिए गए विकल्पों में से सही उत्तर का चयन कीजिए:

- (1) (A)-(III), (B)-(IV), (C)-(I), (D)-(II)
(2) (A)-(I), (B)-(II), (C)-(III), (D)-(IV)
(3) (A)-(II), (B)-(I), (C)-(IV), (D)-(III)
(4) (A)-(IV), (B)-(III), (C)-(II), (D)-(I)

Options :

212807129361. 1
212807129362. 2
212807129363. 3
212807129364. 4

Question Number : 862 Question Id : 21280732342 Question Type : MCQ Option Shuffling : No Is Question Mandatory : No Calculator : None Response Time : N.A Think Time : N.A Minimum Instruction Time : 0

Correct Marks : 5 Wrong Marks : 1

Question Key Details :

Key	Value
Comprehension	MCQ

Match the type of headlines with their explanation.

List - I

- (A) Cross headline
- (B) Inverted Pyramid headline
- (C) Banner headline
- (D) Flush headline

List - II

- (I) Printed flush left
- (II) Centered in column
- (III) Multideck
- (IV) Stretches across many columns

Choose the correct answer from the options given below :

- (1) (A)-(II), (B)-(III), (C)-(IV), (D)-(I)
- (2) (A)-(I), (B)-(II), (C)-(III), (D)-(IV)
- (3) (A)-(II), (B)-(IV), (C)-(III), (D)-(I)
- (4) (A)-(III), (B)-(II), (C)-(I), (D)-(IV)

Options :

- 212807129365. 1
- 212807129366. 2
- 212807129367. 3
- 212807129368. 4

Question Number : 862 Question Id : 21280732342 Question Type : MCQ Option Shuffling : No Is Question Mandatory : No Calculator : None Response Time : N.A Think Time : N.A Minimum Instruction Time : 0

Correct Marks : 5 Wrong Marks : 1

Question Key Details :

Key	Value
Comprehension	MCQ

शीर्षक / हेडलाइन के प्रकार को उसकी व्याख्या/विवरण से मिलाइये।

सूची - I

- (A) क्रॉस हेडलाइन
- (B) उल्टा पिरामिड हेडलाइन
- (C) बैनर हेडलाइन
- (D) फ्लश हेडलाइन

सूची - II

- (I) मुद्रित फ्लश बाएं
- (II) स्तंभ केंद्रित
- (III) मल्टी डेस्क
- (IV) कई स्तंभों में फैला हुआ

नीचे दिए गए विकल्पों में से सही उत्तर का चयन कीजिए:

- (1) (A)-(II), (B)-(III), (C)-(IV), (D)-(I)
- (2) (A)-(I), (B)-(II), (C)-(III), (D)-(IV)
- (3) (A)-(II), (B)-(IV), (C)-(III), (D)-(I)
- (4) (A)-(III), (B)-(II), (C)-(I), (D)-(IV)

Options :

- 212807129365. 1
- 212807129366. 2
- 212807129367. 3
- 212807129368. 4

Question Number : 863 Question Id : 21280732343 Question Type : MCQ Option Shuffling : No Is Question Mandatory : No Calculator : None Response Time : N.A Think Time : N.A Minimum Instruction Time : 0

Correct Marks : 5 Wrong Marks : 1

Question Key Details :

Key	Value
Comprehension	MCQ

The "Pepsi Challenge" contest in 1975 was sponsored by :

- (1) Thumbs up Company
- (2) Cola Company
- (3) Fanta Company
- (4) Limca Company

Options :

212807129369. 1
212807129370. 2
212807129371. 3
212807129372. 4

Question Number : 863 Question Id : 21280732343 Question Type : MCQ Option Shuffling : No Is Question Mandatory : No Calculator : None
Response Time : N.A Think Time : N.A Minimum Instruction Time : 0

Correct Marks : 5 Wrong Marks : 1

Question Key Details :

Key	Value
Comprehension	MCQ

1975 में "पेप्सी चैलेंज" प्रतियोगिता किसके द्वारा प्रायोजित थी :

- (1) थम्ब्स अप कंपनी
- (2) कोला कंपनी
- (3) फैंटा कंपनी
- (4) लिम्का कंपनी

Options :

212807129369. 1
212807129370. 2
212807129371. 3
212807129372. 4

Question Number : 864 Question Id : 21280732344 Question Type : MCQ Option Shuffling : No Is Question Mandatory : No Calculator : None
Response Time : N.A Think Time : N.A Minimum Instruction Time : 0

Correct Marks : 5 Wrong Marks : 1

Question Key Details :

Key	Value
Comprehension	MCQ

Which of the following is NOT a stage of interpersonal communication ?

- (1) Phatic state
- (2) Production stage
- (3) Personal stage
- (4) Intimate stage

Options :

212807129373. 1
212807129374. 2
212807129375. 3
212807129376. 4

Question Number : 864 Question Id : 21280732344 Question Type : MCQ Option Shuffling : No Is Question Mandatory : No Calculator : None
Response Time : N.A Think Time : N.A Minimum Instruction Time : 0

Correct Marks : 5 Wrong Marks : 1

Question Key Details :

Key	Value
Comprehension	MCQ

निम्न में से कौन-सा पारस्परिक संचार का (interpersonal communication) एक चरण नहीं है ?

- (1) फैटिक चरण/स्टेज
- (2) प्रोडक्शन स्टेज
- (3) पर्सनल (निजी) स्टेज
- (4) अंतरंग (इंटिमेट) स्टेज

Options :

212807129373. 1
212807129374. 2
212807129375. 3
212807129376. 4

Question Number : 865 Question Id : 21280732345 Question Type : MCQ Option Shuffling : No Is Question Mandatory : No Calculator : None
Response Time : N.A Think Time : N.A Minimum Instruction Time : 0

Correct Marks : 5 Wrong Marks : 1

Question Key Details :

Key	Value
Comprehension	MCQ

Which of the following is not a social networking site ?

- (1) Orkut
- (2) e-bay
- (3) Facebook
- (4) Instagram

Options :

212807129377. 1
212807129378. 2
212807129379. 3
212807129380. 4

Question Number : 865 Question Id : 21280732345 Question Type : MCQ Option Shuffling : No Is Question Mandatory : No Calculator : None
Response Time : N.A Think Time : N.A Minimum Instruction Time : 0

Correct Marks : 5 Wrong Marks : 1

Question Key Details :

Key	Value
Comprehension	MCQ

निम्न में से कौन-सी एक सोशल नेटवर्किंग साइट नहीं है ?

- (1) ऑरकुट
- (2) इ-बे
- (3) फेसबुक
- (4) इन्स्टाग्राम

Options :

212807129377. 1
212807129378. 2
212807129379. 3
212807129380. 4

Question Number : 866 Question Id : 21280732346 Question Type : MCQ Option Shuffling : No Is Question Mandatory : No Calculator : None
Response Time : N.A Think Time : N.A Minimum Instruction Time : 0

Correct Marks : 5 Wrong Marks : 1

Question Key Details :

Key	Value
Comprehension	MCQ

Identify the first Hindi Newspaper published in India ?

- (1) Punjab Kesari
- (2) Navbharat Times
- (3) Udant Martand
- (4) Hindustan

Options :

212807129381. 1
212807129382. 2
212807129383. 3
212807129384. 4

Question Number : 866 Question Id : 21280732346 Question Type : MCQ Option Shuffling : No Is Question Mandatory : No Calculator : None
Response Time : N.A Think Time : N.A Minimum Instruction Time : 0

Correct Marks : 5 Wrong Marks : 1

Question Key Details :

Key	Value
Comprehension	MCQ

भारत में प्रकाशित होने वाले पहले हिंदी समाचार पत्र की पहचान कीजिये ?

- (1) पंजाब केसरी
- (2) नवभारत टाइम्स
- (3) उदंत मार्तंड
- (4) हिन्दुस्तान

Options :

212807129381. 1
212807129382. 2
212807129383. 3
212807129384. 4

Question Number : 867 Question Id : 21280732347 Question Type : MCQ Option Shuffling : No Is Question Mandatory : No Calculator : None
Response Time : N.A Think Time : N.A Minimum Instruction Time : 0

Correct Marks : 5 Wrong Marks : 1

Question Key Details :

Key	Value
Comprehension	MCQ

Arrange the following in chronological order, beginning from the first to the last :

- (A) Printing Newspapers
- (B) Invention of Printing Press
- (C) Printing of Books
- (D) Advent of Radio
- (E) Advent of Television

Choose the correct answer from the options given below :

- (1) (B), (D), (C), (A), (E)
- (2) (B), (C), (A), (D), (E)
- (3) (A), (C), (B), (E), (D)
- (4) (A), (B), (C), (D), (E)

Options :

212807129385. 1
212807129386. 2
212807129387. 3
212807129388. 4

Question Number : 867 Question Id : 21280732347 Question Type : MCQ Option Shuffling : No Is Question Mandatory : No Calculator : None Response Time : N.A Think Time : N.A Minimum Instruction Time : 0

Correct Marks : 5 Wrong Marks : 1

Question Key Details :

Key	Value
Comprehension	MCQ

निम्नलिखित को प्रथम से अंतिम तक के क्रम में कालक्रमानुसार व्यवस्थित कीजिए :

- (A) समाचार पत्र छपाई
(B) प्रिंटिंग प्रेस का आविष्कार
(C) किताबों की छपाई
(D) रेडियो का आगमन
(E) टेलीविजन का आगमन

नीचे दिए गए विकल्पों में से सही उत्तर का चयन कीजिए:

- (1) (B), (D), (C), (A), (E)
(2) (B), (C), (A), (D), (E)
(3) (A), (C), (B), (E), (D)
(4) (A), (B), (C), (D), (E)

Options :

212807129385. 1
212807129386. 2
212807129387. 3
212807129388. 4

Question Number : 868 Question Id : 21280732348 Question Type : MCQ Option Shuffling : No Is Question Mandatory : No Calculator : None Response Time : N.A Think Time : N.A Minimum Instruction Time : 0

Correct Marks : 5 Wrong Marks : 1

Question Key Details :

Key	Value
Comprehension	MCQ

It is the responsibility of a Station Director/Manager to look after :

- (A) Guiding music programmes to be played on the radio channel.
(B) The content and daily programming are put together in an interesting manner.
(C) Sound mixing in the studio.
(D) Switching on the radio in the early morning.

Choose the correct answer from the options given below :

- (1) (D) and (C) only
(2) (C) and (B) only
(3) (A) and (B) only
(4) (B) and (D) only

Options :

212807129389. 1
212807129390. 2

212807129391. 3
212807129392. 4

Question Number : 868 Question Id : 21280732348 Question Type : MCQ Option Shuffling : No Is Question Mandatory : No Calculator : None
Response Time : N.A Think Time : N.A Minimum Instruction Time : 0
Correct Marks : 5 Wrong Marks : 1

Question Key Details :

Key	Value
Comprehension	MCQ

यह स्टेशन निदेशक/प्रबंधक की जिम्मेदारी है कि वह देखभाल करे :

- (A) रेडियो चैनल से चलाये जाने वाले संगीत कार्यक्रमों का मार्गदर्शन।
- (B) सामग्री और दैनिक प्रोग्रामिंग को दिलचस्प तरीके से साथ रखना।
- (C) स्टूडियो में साउंड मिक्सिंग (संगीत सम्मिश्रण)।
- (D) सुबह जल्दी रेडियो चालू करना।

नीचे दिए गए विकल्पों में से सही उत्तर का चयन कीजिए:

- (1) केवल (D) और (C)
- (2) केवल (C) और (B)
- (3) केवल (A) और (B)
- (4) केवल (B) और (D)

Options :

212807129389. 1
212807129390. 2
212807129391. 3
212807129392. 4

Question Number : 869 Question Id : 21280732349 Question Type : MCQ Option Shuffling : No Is Question Mandatory : No Calculator : None
Response Time : N.A Think Time : N.A Minimum Instruction Time : 0
Correct Marks : 5 Wrong Marks : 1

Question Key Details :

Key	Value
Comprehension	MCQ

Prabhat Studios is located in which city ?

- (1) Pune
- (2) Mumbai
- (3) Kolkata
- (4) Chennai

Options :

212807129393. 1
212807129394. 2
212807129395. 3
212807129396. 4

Question Number : 869 Question Id : 21280732349 Question Type : MCQ Option Shuffling : No Is Question Mandatory : No Calculator : None
Response Time : N.A Think Time : N.A Minimum Instruction Time : 0
Correct Marks : 5 Wrong Marks : 1

Question Key Details :

Key	Value
Comprehension	MCQ

प्रभात स्टूडियो किस शहर में स्थित है ?

- (1) पुणे
- (2) मुम्बई
- (3) कोलकाता
- (4) चेन्नई

Options :

212807129393. 1
212807129394. 2
212807129395. 3
212807129396. 4

Question Number : 870 Question Id : 21280732350 Question Type : MCQ Option Shuffling : No Is Question Mandatory : No Calculator : None
Response Time : N.A Think Time : N.A Minimum Instruction Time : 0

Correct Marks : 5 Wrong Marks : 1

Question Key Details :

Key	Value
Comprehension	MCQ

Identify the format in which news is presented to its readers in a newspaper ?

- (1) Story format
- (2) Regular feature format
- (3) Regular Pyramid format
- (4) Inverted Pyramid format

Options :

212807129397. 1
212807129398. 2
212807129399. 3
212807129400. 4

Question Number : 870 Question Id : 21280732350 Question Type : MCQ Option Shuffling : No Is Question Mandatory : No Calculator : None
Response Time : N.A Think Time : N.A Minimum Instruction Time : 0

Correct Marks : 5 Wrong Marks : 1

Question Key Details :

Key	Value
Comprehension	MCQ

समाचार पत्र में पाठकों तक समाचार जिस रूप में पहुंचता है उसे पहचानिए।

- (1) कहानी प्रारूप (Story format)
- (2) रेगुलर फीचर फॉर्मेट
- (3) नियमित पिरामिड प्रारूप (Regular Pyramid format)
- (4) उल्टा पिरामिड प्रारूप (Inverted Pyramid format)

Options :

212807129397. 1
212807129398. 2
212807129399. 3
212807129400. 4

Question Number : 871 Question Id : 21280732351 Question Type : MCQ Option Shuffling : No Is Question Mandatory : No Calculator : None
Response Time : N.A Think Time : N.A Minimum Instruction Time : 0

Correct Marks : 5 Wrong Marks : 1

Question Key Details :

Key	Value
-----	-------

The Neon signs are mainly in _____ and _____ colours. And they are popularly used in outdoor publicity.

- (A) Red
- (B) Blue
- (C) Purple
- (D) White
- (E) Green

Choose the **correct** answer from the options given below :

- (1) (B), (C) and (E) only
- (2) (C) and (D) only
- (3) (A) and (B) only
- (4) (A), (D) and (E) only

Options :

- 212807129401. 1
- 212807129402. 2
- 212807129403. 3
- 212807129404. 4

Question Number : 871 Question Id : 21280732351 Question Type : MCQ Option Shuffling : No Is Question Mandatory : No Calculator : None Response Time : N.A Think Time : N.A Minimum Instruction Time : 0

Correct Marks : 5 Wrong Marks : 1

Question Key Details :

Key	Value
Comprehension	MCQ

Neon चिन्ह मुख्य रूप से _____ और _____ रंगों में होते हैं और वे बाहरी प्रचार में व्यापक रूप से प्रयोग किये जाते हैं।

- (A) लाल
- (B) नीला
- (C) बैंगनी
- (D) सफेद
- (E) हरा

नीचे दिए गए विकल्पों में से **सही उत्तर** का चयन कीजिए:

- (1) केवल (B), (C) और (E)
- (2) केवल (C) और (D)
- (3) केवल (A) और (B)
- (4) केवल (A), (D) और (E)

Options :

- 212807129401. 1
- 212807129402. 2
- 212807129403. 3
- 212807129404. 4

Question Number : 872 Question Id : 21280732352 Question Type : MCQ Option Shuffling : No Is Question Mandatory : No Calculator : None Response Time : N.A Think Time : N.A Minimum Instruction Time : 0

Correct Marks : 5 Wrong Marks : 1

Question Key Details :

Key	Value
Comprehension	MCQ

Who is the author of the book 'Film Form' which summarizes the relationship between cinema and other arts ?

- (1) Sergei M. Eisenstein
- (2) Anton Chekhov
- (3) Jan Vermeer
- (4) Akira Kurosawa

Options :

212807129405. 1
212807129406. 2
212807129407. 3
212807129408. 4

Question Number : 872 Question Id : 21280732352 Question Type : MCQ Option Shuffling : No Is Question Mandatory : No Calculator : None
Response Time : N.A Think Time : N.A Minimum Instruction Time : 0

Correct Marks : 5 Wrong Marks : 1

Question Key Details :

Key	Value
Comprehension	MCQ

पुस्तक 'film form', जो सिनेमा और अन्य कलाओं के मध्य संबंध बताती है, का लेखक कौन है ?

- (1) सर्गी एम. आइज़ंस्टीन (Sergei M. Eisenstein)
- (2) एंतोन चेखव (Anton Chekhov)
- (3) जैन वरमीर (Jan Vermeer)
- (4) अकीरा कुरोसावा (Akira Kurosawa)

Options :

212807129405. 1
212807129406. 2
212807129407. 3
212807129408. 4

Question Number : 873 Question Id : 21280732353 Question Type : MCQ Option Shuffling : No Is Question Mandatory : No Calculator : None
Response Time : N.A Think Time : N.A Minimum Instruction Time : 0

Correct Marks : 5 Wrong Marks : 1

Question Key Details :

Key	Value
Comprehension	MCQ

UIDAI is responsible for :

- (1) PAN enrolment and authentication
- (2) Issue of Passport
- (3) Issue of Driving License
- (4) Aadhar enrolment and authentication

Options :

212807129409. 1
212807129410. 2
212807129411. 3
212807129412. 4

Question Number : 873 Question Id : 21280732353 Question Type : MCQ Option Shuffling : No Is Question Mandatory : No Calculator : None
Response Time : N.A Think Time : N.A Minimum Instruction Time : 0

Correct Marks : 5 Wrong Marks : 1

Question Key Details :

Key	Value
Comprehension	MCQ

UIDAI _____ के लिये जिम्मेदार है :

- (1) PAN नामांकन और प्रमाणीकरण
- (2) पासपोर्ट जारी करना
- (3) ड्राइविंग लाइसेंस जारी करना
- (4) आधार नामांकन और प्रमाणीकरण

Options :

212807129409. 1
212807129410. 2
212807129411. 3
212807129412. 4

Question Number : 874 Question Id : 21280732354 Question Type : MCQ Option Shuffling : No Is Question Mandatory : No Calculator : None
Response Time : N.A Think Time : N.A Minimum Instruction Time : 0

Correct Marks : 5 Wrong Marks : 1

Question Key Details :

Key	Value
Comprehension	MCQ

Arrange the following in chronological order, starting from the first :

- (A) Collapse of the Soviet Union
- (B) Kargil War
- (C) Gulf war I
- (D) Vietnam War
- (E) Russo-Ukraine War

Choose the **correct** answer from the options given below :

- (1) (A), (B), (C), (D), (E)
- (2) (D), (B), (C), (A), (E)
- (3) (A), (D), (B), (C), (E)
- (4) (D), (A), (C), (B), (E)

Options :

212807129413. 1
212807129414. 2
212807129415. 3
212807129416. 4

Question Number : 874 Question Id : 21280732354 Question Type : MCQ Option Shuffling : No Is Question Mandatory : No Calculator : None
Response Time : N.A Think Time : N.A Minimum Instruction Time : 0

Correct Marks : 5 Wrong Marks : 1

Question Key Details :

Key	Value
Comprehension	MCQ

पहले से कालानुक्रमिक क्रम में निम्नलिखित को व्यवस्थित करें।

- (A) सोवियत संघ का पतन
- (B) कारगिल युद्ध
- (C) खाड़ी युद्ध - I
- (D) वियतनाम युद्ध
- (E) रूस-यूक्रेन युद्ध

नीचे दिए गए विकल्पों में से सही उत्तर का चयन कीजिए:

- (1) (A), (B), (C), (D), (E)
- (2) (D), (B), (C), (A), (E)
- (3) (A), (D), (B), (C), (E)
- (4) (D), (A), (C), (B), (E)

Options :

- 212807129413. 1
- 212807129414. 2
- 212807129415. 3
- 212807129416. 4

Question Number : 875 Question Id : 21280732355 Question Type : MCQ Option Shuffling : No Is Question Mandatory : No Calculator : None Response Time : N.A Think Time : N.A Minimum Instruction Time : 0

Correct Marks : 5 Wrong Marks : 1

Question Key Details :

Key	Value
Comprehension	MCQ

Which among the following is NOT a scheduling strategy for television programming ?

- (1) Bridging
- (2) Cold Switching
- (3) Hammocking
- (4) Stripping

Options :

- 212807129417. 1
- 212807129418. 2
- 212807129419. 3
- 212807129420. 4

Question Number : 875 Question Id : 21280732355 Question Type : MCQ Option Shuffling : No Is Question Mandatory : No Calculator : None Response Time : N.A Think Time : N.A Minimum Instruction Time : 0

Correct Marks : 5 Wrong Marks : 1

Question Key Details :

Key	Value
Comprehension	MCQ

निम्न में से कौन-सी टेलीविजन प्रोग्रामिंग के लिये शेड्यूलिंग रणनीति नहीं है ?

- (1) ब्रिजिंग
- (2) कोल्ड स्विचिंग
- (3) हैमोकिंग
- (4) स्ट्रिपिंग

Options :

212807129417. 1
212807129418. 2
212807129419. 3
212807129420. 4

Sub-Section Number : 2
Sub-Section Id : 2128072537
Question Shuffling Allowed : No
Is Section Default? : null

Question Number : 876 Question Id : 21280732356 Question Type : MCQ Option Shuffling : No Is Question Mandatory : No Calculator : None
Response Time : N.A Think Time : N.A Minimum Instruction Time : 0
Correct Marks : 5 Wrong Marks : 1

Question Key Details :

Key	Value
Comprehension	Comp1

Read the passage carefully and answer the question based on the passage :

Advertisements draw our attention to various products and describe them positively so that we become interested in buying them. Have you ever heard of the word brand ? Advertising is all about building brands. At a very basic level, branding means stamping a product with a particular name or sign. This is done in order to differentiate it from other products in the market.

Just naming the product may not make us buy it. This is where advertising comes in. It plays a crucial role in trying to convince us to buy the product that is advertised by claiming certain special values of a brand. These special values of a brand are called brand values. These brand values are conveyed through the use of visuals and words to give us an overall image that appeals to us.

Advertisements are an important part of our social and cultural life today. We watch advertisements, discuss them and often judge people according to the brand products they use. Given that advertisements are such a powerful source of influence of our lives, we need to be able to understand the ways in which they work.

Brand values are conveyed through the use of :

- (1) Words and books
- (2) Visuals and words
- (3) Graphics and Spices
- (4) Visuals and gifts

Options :

212807129421. 1
212807129422. 2
212807129423. 3
212807129424. 4

Question Number : 876 Question Id : 21280732356 Question Type : MCQ Option Shuffling : No Is Question Mandatory : No Calculator : None
Response Time : N.A Think Time : N.A Minimum Instruction Time : 0
Correct Marks : 5 Wrong Marks : 1

Question Key Details :

Key	Value
Comprehension	Comp1

गद्यांश को ध्यान से पढ़ें और इस पर आधारित प्रश्न का उत्तर दें :

विज्ञापन हमारा ध्यान विभिन्न उत्पादों की तरफ आकर्षित करते हैं और उसके बारे में सकारात्मक वर्णन करते हैं जिससे हम उन्हें खरीदने में रूचि लें। क्या आपने कभी ब्रांड शब्द पर गौर किया है? विज्ञापन ब्रांड निर्माण के बारे में ही है। बहुत ही बुनियादी तौर पर, ब्रांडिंग का मतलब है एक उत्पाद पर विशेष नाम और चिन्ह की मोहर लगाना, जो इस बाजार में मौजूद अन्य उत्पादों से अलग करता है।

उत्पाद को केवल नाम देना ही इसे खरीदने योग्य नहीं बनाता। यहीं पर विज्ञापन की भूमिका आती है। यह ब्रांड के कुछ विशेष मूल्यों (स्पेशल वैल्यूज) का दावा करके हमें उस उत्पाद को खरीदने के लिये विश्वास में लेने में महत्वपूर्ण भूमिका निभाता है। ब्रांड की यह विशेष अहमियत/मूल्य/वैल्यू ही ब्रांड वैल्यू कहलाती है। इन ब्रांड मूल्यों को दृश्य और शब्दों के उपयोग द्वारा व्यक्त किया जाता है ताकि हमें समग्र आवेश के साथ आकर्षित किया जा सके।

विज्ञापन हमारे आज के सामाजिक और सांस्कृतिक जीवन का अहम हिस्सा है। हम विज्ञापनों को देखते हैं, उनकी चर्चा करते हैं और प्रायः इस्तेमाल किये ब्रांड के आधार पर लोगों का आंकलन भी करते हैं। ये दिये गये विज्ञापन हमारे जीवन को प्रभावित करने का एक मजबूत/शक्तिशाली स्रोत है, हमें उन तरीकों को समझने की ज़रूरत है जिनमें वे कार्य करते हैं।

ब्रांड वैल्यू को _____ के प्रयोग से व्यक्त किया जाता है :

- (1) शब्दों और पुस्तकों
- (2) दृश्यों और शब्दों
- (3) ग्राफिक्स और स्पाइसीज
- (4) दृश्यों और तोहफे

Options :

212807129421. 1
212807129422. 2
212807129423. 3
212807129424. 4

Question Number : 877 Question Id : 21280732357 Question Type : MCQ Option Shuffling : No Is Question Mandatory : No Calculator : None
Response Time : N.A Think Time : N.A Minimum Instruction Time : 0

Correct Marks : 5 Wrong Marks : 1

Question Key Details :

Key	Value
Comprehension	Comp1

Read the passage carefully and answer the question based on the passage :

Advertisements draw our attention to various products and describe them positively so that we become interested in buying them. Have you ever heard of the word brand? Advertising is all about building brands. At a very basic level, branding means stamping a product with a particular name or sign. This is done in order to differentiate it from other products in the market.

Just naming the product may not make us buy it. This is where advertising comes in. It plays a crucial role in trying to convince us to buy the product that is advertised by claiming certain special values of a brand. These special values of a brand are called brand values. These brand values are conveyed through the use of visuals and words to give us an overall image that appeals to us.

Advertisements are an important part of our social and cultural life today. We watch advertisements, discuss them and often judge people according to the brand products they use. Given that advertisements are such a powerful source of influence of our lives, we need to be able to understand the ways in which they work.

How do we often judge people ?

- (1) According to their profession
- (2) According to brand of products they use
- (3) According to their education
- (4) According to their bank balance

Options :

212807129425. 1

212807129426. 2

212807129427. 3

212807129428. 4

Question Number : 877 Question Id : 21280732357 Question Type : MCQ Option Shuffling : No Is Question Mandatory : No Calculator : None Response Time : N.A Think Time : N.A Minimum Instruction Time : 0

Correct Marks : 5 Wrong Marks : 1

Question Key Details :

Key	Value
Comprehension	Compl

गद्यांश को ध्यान से पढ़ें और इस पर आधारित प्रश्न का उत्तर दें :

विज्ञापन हमारा ध्यान विभिन्न उत्पादों की तरफ आकर्षित करते हैं और उसके बारे में सकारात्मक वर्णन करते हैं जिससे हम उन्हें खरीदने में रूचि लें। क्या आपने कभी ब्रांड शब्द पर गौर किया है? विज्ञापन ब्रांड निर्माण के बारे में ही है। बहुत ही बुनियादी तौर पर, ब्रांडिंग का मतलब है एक उत्पाद पर विशेष नाम और चिन्ह की मोहर लगाना, जो इस बाजार में मौजूद अन्य उत्पादों से अलग करता है।

उत्पाद को केवल नाम देना ही इसे खरीदने योग्य नहीं बनाता। यहीं पर विज्ञापन की भूमिका आती है। यह ब्रांड के कुछ विशेष मूल्यों (स्पेशल वैल्यूज) का दावा करके हमें उस उत्पाद को खरीदने के लिये विश्वास में लेने में महत्वपूर्ण भूमिका निभाता है। ब्रांड की यह विशेष अहमियत/मूल्य/वैल्यू ही ब्रांड वैल्यू कहलाती है। इन ब्रांड मूल्यों को दृश्य और शब्दों के उपयोग द्वारा व्यक्त किया जाता है ताकि हमें समग्र आवेश के साथ आकर्षित किया जा सके।

विज्ञापन हमारे आज के सामाजिक और सांस्कृतिक जीवन का अहम हिस्सा है। हम विज्ञापनों को देखते हैं, उनकी चर्चा करते हैं और प्रायः इस्तेमाल किये ब्रांड के आधार पर लोगों का आंकलन भी करते हैं। ये दिये गये विज्ञापन हमारे जीवन को प्रभावित करने का एक मजबूत/शक्तिशाली स्रोत है, हमें उन तरीकों को समझने की ज़रूरत है जिनमें वे कार्य करते हैं।

हम अक्सर लोगों का आंकलन कैसे करते हैं?

- (1) उनके पेशे के आधार पर
- (2) वे जो ब्रांड इस्तेमाल करते हैं उस आधार पर
- (3) उनकी शिक्षा के आधार पर
- (4) उनके बैंक में धनराशि के आधार पर

Options :

212807129425. 1
212807129426. 2
212807129427. 3
212807129428. 4

Question Number : 878 Question Id : 21280732358 Question Type : MCQ Option Shuffling : No Is Question Mandatory : No Calculator : None
Response Time : N.A Think Time : N.A Minimum Instruction Time : 0

Correct Marks : 5 Wrong Marks : 1

Question Key Details :

Key	Value
Comprehension	Comp1

Read the passage carefully and answer the question based on the passage :

Advertisements draw our attention to various products and describe them positively so that we become interested in buying them. Have you ever heard of the word brand? Advertising is all about building brands. At a very basic level, branding means stamping a product with a particular name or sign. This is done in order to differentiate it from other products in the market.

Just naming the product may not make us buy it. This is where advertising comes in. It plays a crucial role in trying to convince us to buy the product that is advertised by claiming certain special values of a brand. These special values of a brand are called brand values. These brand values are conveyed through the use of visuals and words to give us an overall image that appeals to us.

Advertisements are an important part of our social and cultural life today. We watch advertisements, discuss them and often judge people according to the brand products they use. Given that advertisements are such a powerful source of influence of our lives, we need to be able to understand the ways in which they work.

We must try to understand the ways in which advertisements work because :

- (1) Advertisements are a powerful source of influence
- (2) Advertisements are a weak source of influence
- (3) Advertisements are a powerful source of entertainment
- (4) Advertisements are a powerful source of information

Options :

212807129429. 1

212807129430. 2

212807129431. 3

212807129432. 4

Question Number : 878 Question Id : 21280732358 Question Type : MCQ Option Shuffling : No Is Question Mandatory : No Calculator : None

Response Time : N.A Think Time : N.A Minimum Instruction Time : 0

Correct Marks : 5 Wrong Marks : 1

Question Key Details :

Key	Value
Comprehension	Compl

गद्यांश को ध्यान से पढ़ें और इस पर आधारित प्रश्न का उत्तर दें :

विज्ञापन हमारा ध्यान विभिन्न उत्पादों की तरफ आकर्षित करते हैं और उसके बारे में सकारात्मक वर्णन करते हैं जिससे हम उन्हें खरीदने में रूचि लें। क्या आपने कभी ब्रांड शब्द पर गौर किया है? विज्ञापन ब्रांड निर्माण के बारे में ही है। बहुत ही बुनियादी तौर पर, ब्रांडिंग का मतलब है एक उत्पाद पर विशेष नाम और चिन्ह की मोहर लगाना, जो इस बाजार में मौजूद अन्य उत्पादों से अलग करता है।

उत्पाद को केवल नाम देना ही इसे खरीदने योग्य नहीं बनाता। यहीं पर विज्ञापन की भूमिका आती है। यह ब्रांड के कुछ विशेष मूल्यों (स्पेशल वैल्यूज) का दावा करके हमें उस उत्पाद को खरीदने के लिये विश्वास में लेने में महत्वपूर्ण भूमिका निभाता है। ब्रांड की यह विशेष अहमियत/मूल्य/वैल्यू ही ब्रांड वैल्यू कहलाती है। इन ब्रांड मूल्यों को दृश्य और शब्दों के उपयोग द्वारा व्यक्त किया जाता है ताकि हमें समग्र आवेश के साथ आकर्षित किया जा सके।

विज्ञापन हमारे आज के सामाजिक और सांस्कृतिक जीवन का अहम हिस्सा है। हम विज्ञापनों को देखते हैं, उनकी चर्चा करते हैं और प्रायः इस्तेमाल किये ब्रांड के आधार पर लोगों का आंकलन भी करते हैं। ये दिये गये विज्ञापन हमारे जीवन को प्रभावित करने का एक मजबूत/शक्तिशाली स्रोत है, हमें उन तरीकों को समझने की ज़रूरत है जिनमें वे कार्य करते हैं।

हमें उन तरीकों को समझने की ज़रूरत है, जिनसे विज्ञापन कार्य करते हैं। क्योंकि :

- (1) विज्ञापन किसी को प्रभावित करने का मजबूत स्रोत है
- (2) विज्ञापन किसी को प्रभावित करने का कमजोर स्रोत है
- (3) विज्ञापन मनोरंजन का मजबूत स्रोत है
- (4) विज्ञापन जानकारी का मजबूत स्रोत है

Options :

212807129429. 1
212807129430. 2
212807129431. 3
212807129432. 4

Question Number : 879 Question Id : 21280732359 Question Type : MCQ Option Shuffling : No Is Question Mandatory : No Calculator : None

Response Time : N.A Think Time : N.A Minimum Instruction Time : 0

Correct Marks : 5 Wrong Marks : 1

Question Key Details :

Key	Value
Comprehension	Comp1

Read the passage carefully and answer the question based on the passage :

Advertisements draw our attention to various products and describe them positively so that we become interested in buying them. Have you ever heard of the word brand? Advertising is all about building brands. At a very basic level, branding means stamping a product with a particular name or sign. This is done in order to differentiate it from other products in the market.

Just naming the product may not make us buy it. This is where advertising comes in. It plays a crucial role in trying to convince us to buy the product that is advertised by claiming certain special values of a brand. These special values of a brand are called brand values. These brand values are conveyed through the use of visuals and words to give us an overall image that appeals to us.

Advertisements are an important part of our social and cultural life today. We watch advertisements, discuss them and often judge people according to the brand products they use. Given that advertisements are such a powerful source of influence of our lives, we need to be able to understand the ways in which they work.

Advertising is all about building :

- (1) Hospitals
- (2) Parks
- (3) Houses
- (4) Brands

Options :

212807129433. 1

212807129434. 2

212807129435. 3

212807129436. 4

Question Number : 879 Question Id : 21280732359 Question Type : MCQ Option Shuffling : No Is Question Mandatory : No Calculator : None Response Time : N.A Think Time : N.A Minimum Instruction Time : 0

Correct Marks : 5 Wrong Marks : 1

Question Key Details :

Key	Value
Comprehension	Compl

गद्यांश को ध्यान से पढ़ें और इस पर आधारित प्रश्न का उत्तर दें :

विज्ञापन हमारा ध्यान विभिन्न उत्पादों की तरफ आकर्षित करते हैं और उसके बारे में सकारात्मक वर्णन करते हैं जिससे हम उन्हें खरीदने में रूचि लें। क्या आपने कभी ब्रांड शब्द पर गौर किया है? विज्ञापन ब्रांड निर्माण के बारे में ही है। बहुत ही बुनियादी तौर पर, ब्रांडिंग का मतलब है एक उत्पाद पर विशेष नाम और चिन्ह की मोहर लगाना, जो इस बाजार में मौजूद अन्य उत्पादों से अलग करता है।

उत्पाद को केवल नाम देना ही इसे खरीदने योग्य नहीं बनाता। यहीं पर विज्ञापन की भूमिका आती है। यह ब्रांड के कुछ विशेष मूल्यों (स्पेशल वैल्यूज) का दावा करके हमें उस उत्पाद को खरीदने के लिये विश्वास में लेने में महत्वपूर्ण भूमिका निभाता है। ब्रांड की यह विशेष अहमियत/मूल्य/वैल्यू ही ब्रांड वैल्यू कहलाती है। इन ब्रांड मूल्यों को दृश्य और शब्दों के उपयोग द्वारा व्यक्त किया जाता है ताकि हमें समग्र आवेश के साथ आकर्षित किया जा सके।

विज्ञापन हमारे आज के सामाजिक और सांस्कृतिक जीवन का अहम हिस्सा है। हम विज्ञापनों को देखते हैं, उनकी चर्चा करते हैं और प्रायः इस्तेमाल किये ब्रांड के आधार पर लोगों का आंकलन भी करते हैं। ये दिये गये विज्ञापन हमारे जीवन को प्रभावित करने का एक मजबूत/शक्तिशाली स्रोत है, हमें उन तरीकों को समझने की ज़रूरत है जिनमें वे कार्य करते हैं।

विज्ञापन _____ निर्माण के बारे में है :

- (1) अस्पताल
- (2) पार्क
- (3) घर
- (4) ब्रांड

Options :

212807129433. 1
212807129434. 2
212807129435. 3
212807129436. 4

Question Number : 880 Question Id : 21280732360 Question Type : MCQ Option Shuffling : No Is Question Mandatory : No Calculator : None
Response Time : N.A Think Time : N.A Minimum Instruction Time : 0

Correct Marks : 5 Wrong Marks : 1

Question Key Details :

Key	Value
Comprehension	Comp1

Read the passage carefully and answer the question based on the passage :

Advertisements draw our attention to various products and describe them positively so that we become interested in buying them. Have you ever heard of the word brand? Advertising is all about building brands. At a very basic level, branding means stamping a product with a particular name or sign. This is done in order to differentiate it from other products in the market.

Just naming the product may not make us buy it. This is where advertising comes in. It plays a crucial role in trying to convince us to buy the product that is advertised by claiming certain special values of a brand. These special values of a brand are called brand values. These brand values are conveyed through the use of visuals and words to give us an overall image that appeals to us.

Advertisements are an important part of our social and cultural life today. We watch advertisements, discuss them and often judge people according to the brand products they use. Given that advertisements are such a powerful source of influence of our lives, we need to be able to understand the ways in which they work.

Branding is done in order to :

- (1) Differentiate one product from other
- (2) Increase sales
- (3) Earn profit
- (4) Spend money

Options :

212807129437. 1

212807129438. 2

212807129439. 3

212807129440. 4

Question Number : 880 Question Id : 21280732360 Question Type : MCQ Option Shuffling : No Is Question Mandatory : No Calculator : None Response Time : N.A Think Time : N.A Minimum Instruction Time : 0

Correct Marks : 5 Wrong Marks : 1

Question Key Details :

Key	Value
Comprehension	Compl

गद्यांश को ध्यान से पढ़ें और इस पर आधारित प्रश्न का उत्तर दें :

विज्ञापन हमारा ध्यान विभिन्न उत्पादों की तरफ आकर्षित करते हैं और उसके बारे में सकारात्मक वर्णन करते हैं जिससे हम उन्हें खरीदने में रूचि लें। क्या आपने कभी ब्रांड शब्द पर गौर किया है? विज्ञापन ब्रांड निर्माण के बारे में ही है। बहुत ही बुनियादी तौर पर, ब्रांडिंग का मतलब है एक उत्पाद पर विशेष नाम और चिन्ह की मोहर लगाना, जो इस बाजार में मौजूद अन्य उत्पादों से अलग करता है।

उत्पाद को केवल नाम देना ही इसे खरीदने योग्य नहीं बनाता। यहीं पर विज्ञापन की भूमिका आती है। यह ब्रांड के कुछ विशेष मूल्यों (स्पेशल वैल्यूज) का दावा करके हमें उस उत्पाद को खरीदने के लिये विश्वास में लेने में महत्वपूर्ण भूमिका निभाता है। ब्रांड की यह विशेष अहमियत/मूल्य/वैल्यू ही ब्रांड वैल्यू कहलाती है। इन ब्रांड मूल्यों को दृश्य और शब्दों के उपयोग द्वारा व्यक्त किया जाता है ताकि हमें समग्र आवेश के साथ आकर्षित किया जा सके।

विज्ञापन हमारे आज के सामाजिक और सांस्कृतिक जीवन का अहम हिस्सा है। हम विज्ञापनों को देखते हैं, उनकी चर्चा करते हैं और प्रायः इस्तेमाल किये ब्रांड के आधार पर लोगों का आंकलन भी करते हैं। ये दिये गये विज्ञापन हमारे जीवन को प्रभावित करने का एक मजबूत/शक्तिशाली स्रोत है, हमें उन तरीकों को समझने की ज़रूरत है जिनमें वे कार्य करते हैं।

ब्रांडिंग _____ के लिये की जाती है :

- (1) एक उत्पाद को दूसरों से अलग करने के लिये
- (2) बिक्री बढ़ाने के लिये
- (3) मुनाफ़ा कमाने
- (4) पैसा खर्च करने

Options :

212807129437. 1
212807129438. 2
212807129439. 3
212807129440. 4

Sub-Section Number :	3
Sub-Section Id :	2128072538
Question Shuffling Allowed :	No
Is Section Default? :	null

Question Number : 881 Question Id : 21280732361 Question Type : MCQ Option Shuffling : No Is Question Mandatory : No Calculator : None
Response Time : N.A Think Time : N.A Minimum Instruction Time : 0

Correct Marks : 5 Wrong Marks : 1

Question Key Details :

Key	Value
Comprehension	Comp2

Read the passage given below and answer following five question :

AIR has evolved, over the years, a three-tier system of broadcasting namely national, regional, and local. It caters to the information, education, and entertainment needs of the audience through its stations in this country of continental dimension with plural society. They provide news, music spoken words, and other programmes in 23 languages and 176 dialects to almost the entire population of the country which crossed 1 billion mark recently.

The entertainment channel of AIR named Vividh Bharati was started on October 3, 1957 and since November 1, 1967, commercials were aired on this channel. The first Radro Sangeet Sammelan was organised in 1954, which has since become an annual feature. Akashvani Annual Awards to promote excellence in Programme, Engineering, News and Audience Research were instituted in 1974. Doordarshan was separated from AIR on April 1, 1976. The first broadcast by political parties before elections went on-air in 1977 from different stations of AIR. The North Eastern Service was commissioned on January 3, 1990 at Shillong in the campus of AIR, Shillong. The public service broadcasting initially in the evening transmission for about five and a half hour dally has since been extended to three transmissions. The programmes are beamed through a 50 kw SW transmitter in Hindi and English besides music programmes in different languages/ dialects of all the states of the North East.

Which among the following is NOT a part of the three-tier system of broadcasting by AIR ?

- (1) National
- (2) International
- (3) Regional
- (4) Local

Options :

212807129441. 1

212807129442. 2

212807129443. 3

212807129444. 4

Question Number : 881 Question Id : 21280732361 Question Type : MCQ Option Shuffling : No Is Question Mandatory : No Calculator : None Response Time : N.A Think Time : N.A Minimum Instruction Time : 0

Correct Marks : 5 Wrong Marks : 1

Question Key Details :

Key	Value
Comprehension	Comp2

गद्यांश को ध्यान से पढ़ें और इस पर आधारित प्रश्न का उत्तर दें :

आकाशवाणी (AIR) में पिछले कुछ वर्षों में राष्ट्रीय, क्षेत्रीय और स्थानीय प्रसारण की एक त्रिस्तरीय प्रणाली विकसित हुई है। यह भिन्न-भिन्न समाजों वाले महाद्वीपीय आयाम वाले इस देश में अपने दर्शकों की सूचना, शिक्षा और मनोरंजन की जरूरतों की पूर्ति करता है। यह समाचार, संगीत, अंताक्षरी और अन्य कार्यक्रम 23 भाषाओं और 176 बोलियों में प्रदान करता है, देश की लगभग पूरी जनता के लिये जो हाल ही में 1 बिलियन को पार कर गई है।

AIR का मनोरंजन चैनल 'विविध भारती' के नाम से 3 अक्टूबर, 1957 को शुरू हुआ और 1 नवम्बर, 1967 से इस पर विज्ञापन प्रसारित किये जा रहे हैं। प्रथम रेडियो संगीत सम्मेलन 1954 में आयोजित हुआ उसके बाद यह एक वार्षिक कार्यक्रम बन गया। आकाशवाणी वार्षिक सम्मान/पुरस्कार 1974 में स्थापित हुए। ये पुरस्कार प्रोग्रामिंग, इंजिनियरिंग, समाचार और श्रोता शोध के लिये दिये जाते हैं। दूरदर्शन AIR से 1 अप्रैल, 1976 को अलग हुआ। राजनीतिक दलों का चुनाव पूर्व प्रसारण पहली बार 1977 में AIR के विभिन्न स्टेशनों से हुआ। नॉर्थ ईस्ट सेवा को 3 जनवरी, 1990 को AIR के शिलॉंग कैम्पस से प्रारंभ किया गया। सार्वजनिक सेवा प्रसारण शुरू में शाम को साढ़े पांच घंटे तक प्रसारित होता था। तब से अब तक इसे तीन प्रसारण तक बढ़ा दिया है। कार्यक्रम को हिन्दी और अंग्रेजी में 50 kw SW ट्रांसमीटर के माध्यम से प्रसारित किया जाता है, उत्तर पूर्वी भारत के सभी राज्यों की विभिन्न भाषाओं में संगीत कार्यक्रम के अलावा फोन-इन कार्यक्रम (Phone-in-Programmes) शुरू किये गये।

निम्न में से कौन-सा AIR की त्रिस्तरीय ब्रॉड कास्टिंग प्रणाली का हिस्सा नहीं है ?

- (1) राष्ट्रीय
- (2) अन्तर्राष्ट्रीय
- (3) क्षेत्रीय
- (4) स्थानीय

Options :

212807129441. 1

212807129442. 2

212807129443. 3

212807129444. 4

Question Number : 882 Question Id : 21280732362 Question Type : MCQ Option Shuffling : No Is Question Mandatory : No Calculator : None
Response Time : N.A Think Time : N.A Minimum Instruction Time : 0

Correct Marks : 5 Wrong Marks : 1

Question Key Details :

Key	Value
Comprehension	Comp2

Read the passage given below and answer following five question :

AIR has evolved, over the years, a three-tier system of broadcasting namely national, regional, and local. It caters to the information, education, and entertainment needs of the audience through its stations in this country of continental dimension with plural society. They provide news, music spoken words, and other programmes in 23 languages and 176 dialects to almost the entire population of the country which crossed 1 billion mark recently.

The entertainment channel of AIR named Vividh Bharati was started on October 3, 1957 and since November 1, 1967, commercials were aired on this channel. The first Radio Sangeet Sammelan was organised in 1954, which has since become an annual feature. Akashvani Annual Awards to promote excellence in Programme, Engineering, News and Audience Research were instituted in 1974. Doordarshan was separated from AIR on April 1, 1976. The first broadcast by political parties before elections went on-air in 1977 from different stations of AIR. The North Eastern Service was commissioned on January 3, 1990 at Shillong in the campus of AIR, Shillong. The public service broadcasting initially in the evening transmission for about five and a half hour daily has since been extended to three transmissions. The programmes are beamed through a 50 kw SW transmitter in Hindi and English besides music programmes in different languages/ dialects of all the states of the North East.

Which among the following does AIR cater to ?

- (1) Information and healthcare
- (2) Information, education and entertainment
- (3) Technology, politics and economy
- (4) Politics and entertainment

Options :

212807129445. 1

212807129446. 2

212807129447. 3

212807129448. 4

Question Number : 882 Question Id : 21280732362 Question Type : MCQ Option Shuffling : No Is Question Mandatory : No Calculator : None Response Time : N.A Think Time : N.A Minimum Instruction Time : 0

Correct Marks : 5 Wrong Marks : 1

Question Key Details :

Key	Value
Comprehension	Comp2

गद्यांश को ध्यान से पढ़ें और इस पर आधारित प्रश्न का उत्तर दें :

आकाशवाणी (AIR) में पिछले कुछ वर्षों में राष्ट्रीय, क्षेत्रीय और स्थानीय प्रसारण की एक त्रिस्तरीय प्रणाली विकसित हुई है। यह भिन्न-भिन्न समाजों वाले महाद्वीपीय आयाम वाले इस देश में अपने दर्शकों की सूचना, शिक्षा और मनोरंजन की जरूरतों की पूर्ति करता है। यह समाचार, संगीत, अंताक्षरी और अन्य कार्यक्रम 23 भाषाओं और 176 बोलियों में प्रदान करता है, देश की लगभग पूरी जनता के लिये जो हाल ही में 1 बिलियन को पार कर गई है।

AIR का मनोरंजन चैनल 'विविध भारती' के नाम से 3 अक्टूबर, 1957 को शुरू हुआ और 1 नवम्बर, 1967 से इस पर विज्ञापन प्रसारित किये जा रहे हैं। प्रथम रेडियो संगीत सम्मेलन 1954 में आयोजित हुआ उसके बाद यह एक वार्षिक कार्यक्रम बन गया। आकाशवाणी वार्षिक सम्मान/पुरस्कार 1974 में स्थापित हुए। ये पुरस्कार प्रोग्रामिंग, इंजिनियरिंग, समाचार और श्रोता शोध के लिये दिये जाते हैं। दूरदर्शन AIR से 1 अप्रैल, 1976 को अलग हुआ। राजनीतिक दलों का चुनाव पूर्व प्रसारण पहली बार 1977 में AIR के विभिन्न स्टेशनों से हुआ। नॉर्थ ईस्ट सेवा को 3 जनवरी, 1990 को AIR के शिलॉंग कैंपस से प्रारंभ किया गया। सार्वजनिक सेवा प्रसारण शुरू में शाम को साढ़े पांच घंटे तक प्रसारित होता था। तब से अब तक इसे तीन प्रसारण तक बढ़ा दिया है। कार्यक्रम को हिन्दी और अंग्रेजी में 50 kw SW ट्रांसमीटर के माध्यम से प्रसारित किया जाता है, उत्तर पूर्वी भारत के सभी राज्यों की विभिन्न भाषाओं में संगीत कार्यक्रम के अलावा फोन-इन कार्यक्रम (Phone-in-Programmes) शुरू किये गये।

निम्न में से किसकी पूर्ति AIR करता है ?

- (1) जानकारी और स्वास्थ्य संबंधी देखभाल
- (2) जानकारी, शिक्षा और मनोरंजन
- (3) तकनीक, राजनीति और अर्थव्यवस्था
- (4) राजनीति और मनोरंजन

Options :

212807129445. 1

212807129446. 2

212807129447. 3

212807129448. 4

Question Number : 883 Question Id : 21280732363 Question Type : MCQ Option Shuffling : No Is Question Mandatory : No Calculator : None Response Time : N.A Think Time : N.A Minimum Instruction Time : 0

Correct Marks : 5 Wrong Marks : 1

Question Key Details :

Key	Value
Comprehension	Comp2

Read the passage given below and answer following five question :

AIR has evolved, over the years, a three-tier system of broadcasting namely national, regional, and local. It caters to the information, education, and entertainment needs of the audience through its stations in this country of continental dimension with plural society. They provide news, music spoken words, and other programmes in 23 languages and 176 dialects to almost the entire population of the country which crossed 1 billion mark recently.

The entertainment channel of AIR named Vividh Bharati was started on October 3, 1957 and since November 1, 1967, commercials were aired on this channel. The first Radio Sangeet Sammelan was organised in 1954, which has since become an annual feature. Akashvani Annual Awards to promote excellence in Programme, Engineering, News and Audience Research were instituted in 1974. Doordarshan was separated from AIR on April 1, 1976. The first broadcast by political parties before elections went on-air in 1977 from different stations of AIR. The North Eastern Service was commissioned on January 3, 1990 at Shillong in the campus of AIR, Shillong. The public service broadcasting initially in the evening transmission for about five and a half hour daily has since been extended to three transmissions. The programmes are beamed through a 50 kw SW transmitter in Hindi and English besides music programmes in different languages/ dialects of all the states of the North East.

Which was the first entertainment channel of AIR ?

- (1) Rainbow Gold
- (2) Vividh Bharati
- (3) Radio Ceylon
- (4) Radio Shillong

Options :

- 212807129449. 1
- 212807129450. 2
- 212807129451. 3
- 212807129452. 4

Question Number : 883 Question Id : 21280732363 Question Type : MCQ Option Shuffling : No Is Question Mandatory : No Calculator : None
Response Time : N.A Think Time : N.A Minimum Instruction Time : 0

Correct Marks : 5 Wrong Marks : 1

Question Key Details :

Key	Value
Comprehension	Comp2

गद्यांश को ध्यान से पढ़ें और इस पर आधारित प्रश्न का उत्तर दें :

आकाशवाणी (AIR) में पिछले कुछ वर्षों में राष्ट्रीय, क्षेत्रीय और स्थानीय प्रसारण की एक त्रिस्तरीय प्रणाली विकसित हुई है। यह भिन्न-भिन्न समाजों वाले महाद्वीपीय आयाम वाले इस देश में अपने दर्शकों की सूचना, शिक्षा और मनोरंजन की जरूरतों की पूर्ति करता है। यह समाचार, संगीत, अंताक्षरी और अन्य कार्यक्रम 23 भाषाओं और 176 बोलियों में प्रदान करता है, देश की लगभग पूरी जनता के लिये जो हाल ही में 1 बिलियन को पार कर गई है।

AIR का मनोरंजन चैनल 'विविध भारती' के नाम से 3 अक्टूबर, 1957 को शुरू हुआ और 1 नवम्बर, 1967 से इस पर विज्ञापन प्रसारित किये जा रहे हैं। प्रथम रेडियो संगीत सम्मेलन 1954 में आयोजित हुआ उसके बाद यह एक वार्षिक कार्यक्रम बन गया। आकाशवाणी वार्षिक सम्मान/पुरस्कार 1974 में स्थापित हुए। ये पुरस्कार प्रोग्रामिंग, इंजिनियरिंग, समाचार और श्रोता शोध के लिये दिये जाते हैं। दूरदर्शन AIR से 1 अप्रैल, 1976 को अलग हुआ। राजनीतिक दलों का चुनाव पूर्व प्रसारण पहली बार 1977 में AIR के विभिन्न स्टेशनों से हुआ। नॉर्थ ईस्ट सेवा को 3 जनवरी, 1990 को AIR के शिलॉंग कैंपस से प्रारंभ किया गया। सार्वजनिक सेवा प्रसारण शुरू में शाम को साढ़े पांच घंटे तक प्रसारित होता था। तब से अब तक इसे तीन प्रसारण तक बढ़ा दिया है। कार्यक्रम को हिन्दी और अंग्रेजी में 50 kw SW ट्रांसमीटर के माध्यम से प्रसारित किया जाता है, उत्तर पूर्वी भारत के सभी राज्यों की विभिन्न भाषाओं में संगीत कार्यक्रम के अलावा फोन-इन कार्यक्रम (Phone-in-Programmes) शुरू किये गये।

AIR का पहला मनोरंजन चैनल कौन-सा था ?

- (1) रेनबो गोल्ड
- (2) विविध भारती
- (3) रेडियो सीलोन (Radio Ceylon)
- (4) रेडियो शिलॉंग

Options :

212807129449. 1

212807129450. 2

212807129451. 3

212807129452. 4

Question Number : 884 Question Id : 21280732364 Question Type : MCQ Option Shuffling : No Is Question Mandatory : No Calculator : None Response Time : N.A Think Time : N.A Minimum Instruction Time : 0

Correct Marks : 5 Wrong Marks : 1

Question Key Details :

Key	Value
Comprehension	Comp2

Read the passage given below and answer following five question :

AIR has evolved, over the years, a three-tier system of broadcasting namely national, regional, and local. It caters to the information, education, and entertainment needs of the audience through its stations in this country of continental dimension with plural society. They provide news, music spoken words, and other programmes in 23 languages and 176 dialects to almost the entire population of the country which crossed 1 billion mark recently.

The entertainment channel of AIR named Vividh Bharati was started on October 3, 1957 and since November 1, 1967, commercials were aired on this channel. The first Radio Sangeet Sammelan was organised in 1954, which has since become an annual feature. Akashvani Annual Awards to promote excellence in Programme, Engineering, News and Audience Research were instituted in 1974. Doordarshan was separated from AIR on April 1, 1976. The first broadcast by political parties before elections went on-air in 1977 from different stations of AIR. The North Eastern Service was commissioned on January 3, 1990 at Shillong in the campus of AIR, Shillong. The public service broadcasting initially in the evening transmission for about five and a half hour daily has since been extended to three transmissions. The programmes are beamed through a 50 kw SW transmitter in Hindi and English besides music programmes in different languages/ dialects of all the states of the North East.

Akashvani Annual Awards were instituted to promote excellence in :

- (1) Tourism
- (2) Healthcare
- (3) Higher Education
- (4) Programming and Engineering

Options :

- 212807129453. 1
- 212807129454. 2
- 212807129455. 3
- 212807129456. 4

Question Number : 884 Question Id : 21280732364 Question Type : MCQ Option Shuffling : No Is Question Mandatory : No Calculator : None Response Time : N.A Think Time : N.A Minimum Instruction Time : 0

Correct Marks : 5 Wrong Marks : 1

Question Key Details :

Key	Value
Comprehension	Comp2

गद्यांश को ध्यान से पढ़ें और इस पर आधारित प्रश्न का उत्तर दें :

आकाशवाणी (AIR) में पिछले कुछ वर्षों में राष्ट्रीय, क्षेत्रीय और स्थानीय प्रसारण की एक त्रिस्तरीय प्रणाली विकसित हुई है। यह भिन्न-भिन्न समाजों वाले महाद्वीपीय आयाम वाले इस देश में अपने दर्शकों की सूचना, शिक्षा और मनोरंजन की जरूरतों की पूर्ति करता है। यह समाचार, संगीत, अंताक्षरी और अन्य कार्यक्रम 23 भाषाओं और 176 बोलियों में प्रदान करता है, देश की लगभग पूरी जनता के लिये जो हाल ही में 1 बिलियन को पार कर गई है।

AIR का मनोरंजन चैनल 'विविध भारती' के नाम से 3 अक्टूबर, 1957 को शुरू हुआ और 1 नवम्बर, 1967 से इस पर विज्ञापन प्रसारित किये जा रहे हैं। प्रथम रेडियो संगीत सम्मेलन 1954 में आयोजित हुआ उसके बाद यह एक वार्षिक कार्यक्रम बन गया। आकाशवाणी वार्षिक सम्मान/पुरस्कार 1974 में स्थापित हुए। ये पुरस्कार प्रोग्रामिंग, इंजीनियरिंग, समाचार और श्रोता शोध के लिये दिये जाते हैं। दूरदर्शन AIR से 1 अप्रैल, 1976 को अलग हुआ। राजनीतिक दलों का चुनाव पूर्व प्रसारण पहली बार 1977 में AIR के विभिन्न स्टेशनों से हुआ। नॉर्थ ईस्ट सेवा को 3 जनवरी, 1990 को AIR के शिलॉंग कैंपस से प्रारंभ किया गया। सार्वजनिक सेवा प्रसारण शुरू में शाम को साढ़े पांच घंटे तक प्रसारित होता था। तब से अब तक इसे तीन प्रसारण तक बढ़ा दिया है। कार्यक्रम को हिन्दी और अंग्रेजी में 50 kw SW ट्रांसमीटर के माध्यम से प्रसारित किया जाता है, उत्तर पूर्वी भारत के सभी राज्यों की विभिन्न भाषाओं में संगीत कार्यक्रम के अलावा फोन-इन कार्यक्रम (Phone-in-Programmes) शुरू किये गये।

आकाशवाणी वार्षिक पुरस्कार _____ में उत्कृष्टता को बढ़ावा देने के लिये शुरू किये गये थे।

- (1) पर्यटन
- (2) स्वास्थ्य देखभाल
- (3) उच्च शिक्षा
- (4) प्रोग्रामिंग और इंजीनियरिंग

Options :

212807129453. 1
212807129454. 2
212807129455. 3
212807129456. 4

Question Number : 885 Question Id : 21280732365 Question Type : MCQ Option Shuffling : No Is Question Mandatory : No Calculator : None
Response Time : N.A Think Time : N.A Minimum Instruction Time : 0

Correct Marks : 5 Wrong Marks : 1

Question Key Details :

Key	Value
Comprehension	Comp2

Read the passage given below and answer following five question :

AIR has evolved, over the years, a three-tier system of broadcasting namely national, regional, and local. It caters to the information, education, and entertainment needs of the audience through its stations in this country of continental dimension with plural society. They provide news, music spoken words, and other programmes in 23 languages and 176 dialects to almost the entire population of the country which crossed 1 billion mark recently.

The entertainment channel of AIR named Vividh Bharati was started on October 3, 1957 and since November 1, 1967, commercials were aired on this channel. The first Radio Sangeet Sammelan was organised in 1954, which has since become an annual feature. Akashvani Annual Awards to promote excellence in Programme, Engineering, News and Audience Research were instituted in 1974. Doordarshan was separated from AIR on April 1, 1976. The first broadcast by political parties before elections went on-air in 1977 from different stations of AIR. The North Eastern Service was commissioned on January 3, 1990 at Shillong in the campus of AIR, Shillong. The public service broadcasting initially in the evening transmission for about five and a half hour daily has since been extended to three transmissions. The programmes are beamed through a 50 kw SW transmitter in Hindi and English besides music programmes in different languages/ dialects of all the states of the North East.

In which year was Doordashan separated from AIR ?

- (1) April 1, 1977
- (2) April 2, 1976
- (3) April 1, 1976
- (4) April 2, 1977

Options :

- 212807129457. 1
- 212807129458. 2
- 212807129459. 3
- 212807129460. 4

Question Number : 885 Question Id : 21280732365 Question Type : MCQ Option Shuffling : No Is Question Mandatory : No Calculator : None Response Time : N.A Think Time : N.A Minimum Instruction Time : 0

Correct Marks : 5 Wrong Marks : 1

Question Key Details :

Key	Value
Comprehension	Comp2

गद्यांश को ध्यान से पढ़ें और इस पर आधारित प्रश्न का उत्तर दें :

आकाशवाणी (AIR) में पिछले कुछ वर्षों में राष्ट्रीय, क्षेत्रीय और स्थानीय प्रसारण की एक त्रिस्तरीय प्रणाली विकसित हुई है। यह भिन्न-भिन्न समाजों वाले महाद्वीपीय आयाम वाले इस देश में अपने दर्शकों की सूचना, शिक्षा और मनोरंजन की जरूरतों की पूर्ति करता है। यह समाचार, संगीत, अंताक्षरी और अन्य कार्यक्रम 23 भाषाओं और 176 बोलियों में प्रदान करता है, देश की लगभग पूरी जनता के लिये जो हाल ही में 1 बिलियन को पार कर गई है।

AIR का मनोरंजन चैनल 'विविध भारती' के नाम से 3 अक्टूबर, 1957 को शुरू हुआ और 1 नवम्बर, 1967 से इस पर विज्ञापन प्रसारित किये जा रहे हैं। प्रथम रेडियो संगीत सम्मेलन 1954 में आयोजित हुआ उसके बाद यह एक वार्षिक कार्यक्रम बन गया। आकाशवाणी वार्षिक सम्मान/पुरस्कार 1974 में स्थापित हुए। ये पुरस्कार प्रोग्रामिंग, इंजिनियरिंग, समाचार और श्रोता शोध के लिये दिये जाते हैं। दूरदर्शन AIR से 1 अप्रैल, 1976 को अलग हुआ। राजनीतिक दलों का चुनाव पूर्व प्रसारण पहली बार 1977 में AIR के विभिन्न स्टेशनों से हुआ। नॉर्थ ईस्ट सेवा को 3 जनवरी, 1990 को AIR के शिलॉंग कैम्पस से प्रारंभ किया गया। सार्वजनिक सेवा प्रसारण शुरू में शाम को साढ़े पांच घंटे तक प्रसारित होता था। तब से अब तक इसे तीन प्रसारण तक बढ़ा दिया है। कार्यक्रम को हिन्दी और अंग्रेजी में 50 kw SW ट्रांसमीटर के माध्यम से प्रसारित किया जाता है, उत्तर पूर्वी भारत के सभी राज्यों की विभिन्न भाषाओं में संगीत कार्यक्रम के अलावा फोन-इन कार्यक्रम (Phone-in-Programmes) शुरू किये गये।

दूरदर्शन AIR से किस वर्ष अलग हुआ ?

- (1) 1 अप्रैल 1977
- (2) 2 अप्रैल 1976
- (3) 1 अप्रैल 1976
- (4) 2 अप्रैल 1977

Options :

212807129457. 1
212807129458. 2
212807129459. 3
212807129460. 4

Mathematics

Group Number :	24
Group Id :	212807748
Group Maximum Duration :	60
Group Minimum Duration :	60
Show Attended Group? :	No
Edit Attended Group? :	No
Break time :	0
Group Marks :	200
Is this Group for Examiner? :	No
Examiner permission :	Cant View
Show Progress Bar? :	No

Common

Section Id :	212807880
Section Number :	1
Section type :	Online
Mandatory or Optional :	Mandatory
Number of Questions :	15
Number of Questions to be attempted :	15

Section Marks : 75
Enable Mark as Answered Mark for Review and Clear Response : Yes
Maximum Instruction Time : 0
Sub-Section Number : 1
Sub-Section Id : 2128072539
Question Shuffling Allowed : Yes
Is Section Default? : null

Question Number : 886 Question Id : 21280732366 Question Type : MCQ Option Shuffling : No Is Question Mandatory : No Calculator : None
Response Time : N.A Think Time : N.A Minimum Instruction Time : 0

Correct Marks : 5 Wrong Marks : 1

Question Key Details :

Key	Value
Comprehension	MCQ1

The matrix $\begin{bmatrix} 0 & 1 & -1 \\ -1 & 0 & 1 \\ 1 & -1 & 0 \end{bmatrix}$ is :

- (A) Symmetric matrix
- (B) Square matrix
- (C) Diagonal matrix
- (D) Skew-symmetric matrix
- (E) Scalar matrix

Choose the **correct** answer from the options given below :

- (1) (B), (D) Only
- (2) (A), (B) Only
- (3) (D), (E) Only
- (4) (C), (D) Only

Options :

212807129461. 1
212807129462. 2
212807129463. 3
212807129464. 4

Question Number : 886 Question Id : 21280732366 Question Type : MCQ Option Shuffling : No Is Question Mandatory : No Calculator : None
Response Time : N.A Think Time : N.A Minimum Instruction Time : 0

Correct Marks : 5 Wrong Marks : 1

Question Key Details :

Key	Value
Comprehension	MCQ1

आव्यूह $\begin{bmatrix} 0 & 1 & -1 \\ -1 & 0 & 1 \\ 1 & -1 & 0 \end{bmatrix}$ है:

- (A) सममित आव्यूह
 (B) वर्ग आव्यूह
 (C) विकर्ण आव्यूह
 (D) विषम सममित आव्यूह
 (E) अदिश आव्यूह

नीचे दिए गए विकल्पों में से सही उत्तर का चयन कीजिए :

- (1) केवल (B), (D)
 (2) केवल (A), (B)
 (3) केवल (D), (E)
 (4) केवल (C), (D)

Options :

212807129461. 1
 212807129462. 2
 212807129463. 3
 212807129464. 4

Question Number : 887 Question Id : 21280732367 Question Type : MCQ Option Shuffling : No Is Question Mandatory : No Calculator : None
 Response Time : N.A Think Time : N.A Minimum Instruction Time : 0

Correct Marks : 5 Wrong Marks : 1

Question Key Details :

Key	Value
Comprehension	MCQ1

If $\begin{vmatrix} 2x & 3 \\ 5 & x \end{vmatrix} = \begin{vmatrix} 16 & 3 \\ 5 & 2 \end{vmatrix}$ the value of x is :

- (1) $x = \pm 16$
 (2) $x = \pm 4$
 (3) $x = \pm 2$
 (4) $x = \pm 3$

Options :

212807129465. 1
 212807129466. 2
 212807129467. 3
 212807129468. 4

Question Number : 887 Question Id : 21280732367 Question Type : MCQ Option Shuffling : No Is Question Mandatory : No Calculator : None
 Response Time : N.A Think Time : N.A Minimum Instruction Time : 0

Correct Marks : 5 Wrong Marks : 1

Question Key Details :

Key	Value
Comprehension	MCQ1

यदि $\begin{vmatrix} 2x & 3 \\ 5 & x \end{vmatrix} = \begin{vmatrix} 16 & 3 \\ 5 & 2 \end{vmatrix}$, x का मान है :

- (1) $x = \pm 16$
(2) $x = \pm 4$
(3) $x = \pm 2$
(4) $x = \pm 3$

Options :

212807129465. 1
212807129466. 2
212807129467. 3
212807129468. 4

Question Number : 888 Question Id : 21280732368 Question Type : MCQ Option Shuffling : No Is Question Mandatory : No Calculator : None Response Time : N.A Think Time : N.A Minimum Instruction Time : 0

Correct Marks : 5 Wrong Marks : 1

Question Key Details :

Key	Value
Comprehension	MCQ1

If $A = \begin{bmatrix} 3 & 1 \\ -1 & 2 \end{bmatrix}$ then $A^2 - 5A =$

- (1) $7I$
(2) $-7I$
(3) $2I$
(4) $-3I$

Options :

212807129469. 1
212807129470. 2
212807129471. 3
212807129472. 4

Question Number : 888 Question Id : 21280732368 Question Type : MCQ Option Shuffling : No Is Question Mandatory : No Calculator : None Response Time : N.A Think Time : N.A Minimum Instruction Time : 0

Correct Marks : 5 Wrong Marks : 1

Question Key Details :

Key	Value
Comprehension	MCQ1

यदि $A = \begin{bmatrix} 3 & 1 \\ -1 & 2 \end{bmatrix}$ तब $A^2 - 5A =$

- (1) $7I$
(2) $-7I$
(3) $2I$
(4) $-3I$

Options :

212807129469. 1
212807129470. 2
212807129471. 3
212807129472. 4

Question Number : 889 Question Id : 21280732369 Question Type : MCQ Option Shuffling : No Is Question Mandatory : No Calculator : None
Response Time : N.A Think Time : N.A Minimum Instruction Time : 0

Correct Marks : 5 Wrong Marks : 1

Question Key Details :

Key	Value
Comprehension	MCQ1

If $|A| = 3$ and $A^{-1} = \begin{bmatrix} 3 & -1 \\ -5/3 & 2/3 \end{bmatrix}$ then $\text{adj } A$ is

(1) $\begin{bmatrix} 9 & 3 \\ 5 & 2 \end{bmatrix}$

(2) $\begin{bmatrix} -9 & 3 \\ -5 & 2 \end{bmatrix}$

(3) $\begin{bmatrix} 9 & -3 \\ -5 & 2 \end{bmatrix}$

(4) $\begin{bmatrix} -9 & 3 \\ 5 & -2 \end{bmatrix}$

Options :

212807129473. 1

212807129474. 2

212807129475. 3

212807129476. 4

Question Number : 889 Question Id : 21280732369 Question Type : MCQ Option Shuffling : No Is Question Mandatory : No Calculator : None
Response Time : N.A Think Time : N.A Minimum Instruction Time : 0

Correct Marks : 5 Wrong Marks : 1

Question Key Details :

Key	Value
Comprehension	MCQ1

यदि $|A| = 3$ और $A^{-1} = \begin{bmatrix} 3 & -1 \\ -5/3 & 2/3 \end{bmatrix}$ तब $\text{adj } A$ है :

(1) $\begin{bmatrix} 9 & 3 \\ 5 & 2 \end{bmatrix}$

(2) $\begin{bmatrix} -9 & 3 \\ -5 & 2 \end{bmatrix}$

(3) $\begin{bmatrix} 9 & -3 \\ -5 & 2 \end{bmatrix}$

(4) $\begin{bmatrix} -9 & 3 \\ 5 & -2 \end{bmatrix}$

Options :

212807129473. 1

212807129474. 2

212807129475. 3

212807129476. 4

Question Number : 890 Question Id : 21280732370 Question Type : MCQ Option Shuffling : No Is Question Mandatory : No Calculator : None
Response Time : N.A Think Time : N.A Minimum Instruction Time : 0

Correct Marks : 5 Wrong Marks : 1

Question Key Details :

Key	Value
Comprehension	MCQ1

If the function $f(x) = \begin{cases} 3x - 8 & \text{if } x \leq 5 \\ 2K & \text{if } x > 5 \end{cases}$ is continuous, then the value of K is :

(1) $\frac{2}{7}$

(2) $\frac{7}{2}$

(3) $\frac{3}{7}$

(4) $\frac{4}{7}$

Options :

212807129477. 1

212807129478. 2

212807129479. 3

212807129480. 4

Question Number : 890 Question Id : 21280732370 Question Type : MCQ Option Shuffling : No Is Question Mandatory : No Calculator : None
Response Time : N.A Think Time : N.A Minimum Instruction Time : 0

Correct Marks : 5 Wrong Marks : 1

Question Key Details :

Key	Value
Comprehension	MCQ1

यदि फलन $f(x) = \begin{cases} 3x - 8 & \text{यदि } x \leq 5 \\ 2K & \text{यदि } x > 5 \end{cases}$ संतत है, तब K का मान है :

(1) $\frac{2}{7}$

(2) $\frac{7}{2}$

(3) $\frac{3}{7}$

(4) $\frac{4}{7}$

Options :

212807129477. 1

212807129478. 2

212807129479. 3

Question Number : 891 Question Id : 21280732371 Question Type : MCQ Option Shuffling : No Is Question Mandatory : No Calculator : None
Response Time : N.A Think Time : N.A Minimum Instruction Time : 0

Correct Marks : 5 Wrong Marks : 1

Question Key Details :

Key	Value
Comprehension	MCQ1

Equation of normal to the curve $y = x + \frac{1}{2} \sin 2x$ at $x = -\frac{\pi}{2}$ is :

- (1) $x + \pi = 0$
 (2) $x = 2\pi$
 (3) $2x + \pi = 0$
 (4) $x - \pi = 0$

Options :

212807129481. 1
 212807129482. 2
 212807129483. 3
 212807129484. 4

Question Number : 891 Question Id : 21280732371 Question Type : MCQ Option Shuffling : No Is Question Mandatory : No Calculator : None
Response Time : N.A Think Time : N.A Minimum Instruction Time : 0

Correct Marks : 5 Wrong Marks : 1

Question Key Details :

Key	Value
Comprehension	MCQ1

$x = -\frac{\pi}{2}$ पर वक्र $y = x + \frac{1}{2} \sin 2x$ के अभिलम्ब का समीकरण है :

- (1) $x + \pi = 0$
 (2) $x = 2\pi$
 (3) $2x + \pi = 0$
 (4) $x - \pi = 0$

Options :

212807129481. 1
 212807129482. 2
 212807129483. 3
 212807129484. 4

Question Number : 892 Question Id : 21280732372 Question Type : MCQ Option Shuffling : No Is Question Mandatory : No Calculator : None
Response Time : N.A Think Time : N.A Minimum Instruction Time : 0

Correct Marks : 5 Wrong Marks : 1

Question Key Details :

Key	Value
Comprehension	MCQ1

A particle is moving along the curve $y = \frac{3}{4}x^4 + 3$. The point on the curve at which y -coordinate is changing thrice as fast as the x coordinate, is :

- (1) $(1, -\frac{9}{4})$
- (2) $(0, 3)$
- (3) $(1, \frac{15}{4})$
- (4) $(-1, \frac{15}{4})$

Options :

- 212807129485. 1
- 212807129486. 2
- 212807129487. 3
- 212807129488. 4

Question Number : 892 Question Id : 21280732372 Question Type : MCQ Option Shuffling : No Is Question Mandatory : No Calculator : None
Response Time : N.A Think Time : N.A Minimum Instruction Time : 0

Correct Marks : 5 Wrong Marks : 1

Question Key Details :

Key	Value
Comprehension	MCQ1

एक कण वक्र $y = \frac{3}{4}x^4 + 3$ के अनुदिश घूम रहा है। वह बिंदु जिसका y -निर्देशांक x निर्देशांक की तुलना में तीन गुना दर से परिवर्तित हो रहा हो, है :

- (1) $(1, -\frac{9}{4})$
- (2) $(0, 3)$
- (3) $(1, \frac{15}{4})$
- (4) $(-1, \frac{15}{4})$

Options :

- 212807129485. 1
- 212807129486. 2
- 212807129487. 3
- 212807129488. 4

Question Number : 893 Question Id : 21280732373 Question Type : MCQ Option Shuffling : No Is Question Mandatory : No Calculator : None
Response Time : N.A Think Time : N.A Minimum Instruction Time : 0

Correct Marks : 5 Wrong Marks : 1

Question Key Details :

Key	Value
Comprehension	MCQ1

The value of $\int_1^4 |x - 1| dx$ is :

(1) $\frac{9}{2}$

(2) $\frac{7}{2}$

(3) $\frac{5}{2}$

(4) $\frac{3}{2}$

Options :

212807129489. 1

212807129490. 2

212807129491. 3

212807129492. 4

Question Number : 893 Question Id : 21280732373 Question Type : MCQ Option Shuffling : No Is Question Mandatory : No Calculator : None
Response Time : N.A Think Time : N.A Minimum Instruction Time : 0

Correct Marks : 5 Wrong Marks : 1

Question Key Details :

Key	Value
Comprehension	MCQ1

$\int_1^4 |x - 1| dx$ का मान है :

(1) $\frac{9}{2}$

(2) $\frac{7}{2}$

(3) $\frac{5}{2}$

(4) $\frac{3}{2}$

Options :

212807129489. 1

212807129490. 2

212807129491. 3

212807129492. 4

Question Number : 894 Question Id : 21280732374 Question Type : MCQ Option Shuffling : No Is Question Mandatory : No Calculator : None
Response Time : N.A Think Time : N.A Minimum Instruction Time : 0

Correct Marks : 5 Wrong Marks : 1

Question Key Details :

Key	Value
Comprehension	MCQ1

The area of the region bounded by the curve $2y=3x-6$, y -axis and the line $y=2$ and $y=-3$ is :

- (1) 16 sq. units
- (2) 25 sq. units
- (3) $\frac{25}{3}$ sq. units
- (4) $\frac{16}{3}$ sq. units

Options :

- 212807129493. 1
- 212807129494. 2
- 212807129495. 3
- 212807129496. 4

Question Number : 894 Question Id : 21280732374 Question Type : MCQ Option Shuffling : No Is Question Mandatory : No Calculator : None Response Time : N.A Think Time : N.A Minimum Instruction Time : 0

Correct Marks : 5 Wrong Marks : 1

Question Key Details :

Key	Value
Comprehension	MCQ1

वक्र $2y=3x-6$, y -अक्ष और रेखा $y=2$ व $y=-3$ से घिरे भाग का क्षेत्रफल है :

- (1) 16 वर्ग इकाई
- (2) 25 वर्ग इकाई
- (3) $\frac{25}{3}$ वर्ग इकाई
- (4) $\frac{16}{3}$ वर्ग इकाई

Options :

- 212807129493. 1
- 212807129494. 2
- 212807129495. 3
- 212807129496. 4

Question Number : 895 Question Id : 21280732375 Question Type : MCQ Option Shuffling : No Is Question Mandatory : No Calculator : None Response Time : N.A Think Time : N.A Minimum Instruction Time : 0

Correct Marks : 5 Wrong Marks : 1

Question Key Details :

Key	Value
Comprehension	MCQ1

The sum of the order and degree of the differential equation $2x^3\left(\frac{d^2y}{dx^2}\right)^4 + \frac{d^3y}{dx^3} + y = 0$ is :

- (1) 4
- (2) 5
- (3) 6
- (4) not defined

Options :

- 212807129497. 1
- 212807129498. 2
- 212807129499. 3

Question Number : 895 Question Id : 21280732375 Question Type : MCQ Option Shuffling : No Is Question Mandatory : No Calculator : None
Response Time : N.A Think Time : N.A Minimum Instruction Time : 0

Correct Marks : 5 Wrong Marks : 1

Question Key Details :

Key	Value
Comprehension	MCQ1

अवकल समीकरण $2x^3 \left(\frac{d^2y}{dx^2} \right)^4 + \frac{d^3y}{dx^3} + y = 0$ की कोटि और घात का योग है :

- (1) 4
(2) 5
(3) 6
(4) परिभाषित नहीं

Options :

212807129497. 1
212807129498. 2
212807129499. 3
212807129500. 4

Question Number : 896 Question Id : 21280732376 Question Type : MCQ Option Shuffling : No Is Question Mandatory : No Calculator : None
Response Time : N.A Think Time : N.A Minimum Instruction Time : 0

Correct Marks : 5 Wrong Marks : 1

Question Key Details :

Key	Value
Comprehension	MCQ1

The integrating factor of the differential equation $\frac{dy}{dx} + y = \frac{1+y}{x}$ is :

- (1) $\frac{e^x}{x}$
(2) $\frac{x}{e^x}$
(3) xe^x
(4) e^x

Options :

212807129501. 1
212807129502. 2
212807129503. 3
212807129504. 4

Question Number : 896 Question Id : 21280732376 Question Type : MCQ Option Shuffling : No Is Question Mandatory : No Calculator : None
Response Time : N.A Think Time : N.A Minimum Instruction Time : 0

Correct Marks : 5 Wrong Marks : 1

Question Key Details :

Key	Value
Comprehension	MCQ1

अवकल समीकरण $\frac{dy}{dx} + y = \frac{1+y}{x}$ का समाकलन गुणक है :

(1) $\frac{e^{-x}}{x}$

(2) $\frac{x}{e^x}$

(3) xe^x

(4) e^x

Options :

212807129501. 1

212807129502. 2

212807129503. 3

212807129504. 4

Question Number : 897 Question Id : 21280732377 Question Type : MCQ Option Shuffling : No Is Question Mandatory : No Calculator : None Response Time : N.A Think Time : N.A Minimum Instruction Time : 0

Correct Marks : 5 Wrong Marks : 1

Question Key Details :

Key	Value
Comprehension	MCQ1

A pair of dice is thrown 3 times. If getting a doublet is considered a success, then the probability of two successes is :

(1) $\frac{1}{72}$

(2) $\frac{7}{72}$

(3) $\frac{5}{72}$

(4) $\frac{11}{72}$

Options :

212807129505. 1

212807129506. 2

212807129507. 3

212807129508. 4

Question Number : 897 Question Id : 21280732377 Question Type : MCQ Option Shuffling : No Is Question Mandatory : No Calculator : None Response Time : N.A Think Time : N.A Minimum Instruction Time : 0

Correct Marks : 5 Wrong Marks : 1

Question Key Details :

Key	Value
Comprehension	MCQ1

पासों का एक युग्म 3 बार उछाला गया। यदि द्विक की प्राप्ति को सफलता माना जाए तो दो सफलताओं की प्रायिकता है :

(1) $\frac{1}{72}$

(2) $\frac{7}{72}$

(3) $\frac{5}{72}$

(4) $\frac{11}{72}$

Options :

212807129505. 1

212807129506. 2

212807129507. 3

212807129508. 4

Question Number : 898 Question Id : 21280732378 Question Type : MCQ Option Shuffling : No Is Question Mandatory : No Calculator : None Response Time : N.A Think Time : N.A Minimum Instruction Time : 0

Correct Marks : 5 Wrong Marks : 1

Question Key Details :

Key	Value
Comprehension	MCQ1

Match List - I with List - II.

List - I

List - II

(A) $P(\bar{A} \cap B)$

(I) $P(A) + P(B)$

(B) $P(A \cap \bar{B})$

(II) $P(A) + P(B) - 2P(A \cap B)$

(C) $P[(A \cap \bar{B}) \cup (\bar{A} \cap B)]$

(III) $P(B) - P(A \cap B)$

(D) $P(A \cup B) + P(A \cap B)$

(IV) $P(A) - P(A \cap B)$

Choose the correct answer from the options given below :

(1) (A)-(I), (B)-(II), (C)-(IV), (D)-(III)

(2) (A)-(II), (B)-(III), (C)-(I), (D)-(IV)

(3) (A)-(III), (B)-(IV), (C)-(II), (D)-(I)

(4) (A)-(IV), (B)-(II), (C)-(III), (D)-(I)

Options :

212807129509. 1

212807129510. 2

212807129511. 3

212807129512. 4

Question Number : 898 Question Id : 21280732378 Question Type : MCQ Option Shuffling : No Is Question Mandatory : No Calculator : None Response Time : N.A Think Time : N.A Minimum Instruction Time : 0

Correct Marks : 5 Wrong Marks : 1

Question Key Details :

Key	Value
Comprehension	MCQ1

सूची-I से सूची-II का मिलान कीजिए :

सूची-I

सूची-II

(A) $P(\bar{A} \cap B)$

(I) $P(A) + P(B)$

(B) $P(A \cap \bar{B})$

(II) $P(A) + P(B) - 2P(A \cap B)$

(C) $P[(A \cap \bar{B}) \cup (\bar{A} \cap B)]$

(III) $P(B) - P(A \cap B)$

(D) $P(A \cup B) + P(A \cap B)$

(IV) $P(A) - P(A \cap B)$

नीचे दिए गए विकल्पों में से सही उत्तर का चयन कीजिए :

(1) (A)-(I), (B)-(II), (C)-(IV), (D)-(III)

(2) (A)-(II), (B)-(III), (C)-(I), (D)-(IV)

(3) (A)-(III), (B)-(IV), (C)-(II), (D)-(I)

(4) (A)-(IV), (B)-(II), (C)-(III), (D)-(I)

Options :

212807129509. 1

212807129510. 2

212807129511. 3

212807129512. 4

Question Number : 899 Question Id : 21280732379 Question Type : MCQ Option Shuffling : No Is Question Mandatory : No Calculator : None Response Time : N.A Think Time : N.A Minimum Instruction Time : 0

Correct Marks : 5 Wrong Marks : 1

Question Key Details :

Key	Value
Comprehension	MCQ1

The value of objective function is maximum under linear constraints is

(1) at (0, 0)

(2) at the centre of feasible region

(3) at any point of feasible region

(4) at one of the corner points of the feasible region

Options :

212807129513. 1

212807129514. 2

212807129515. 3

212807129516. 4

Question Number : 899 Question Id : 21280732379 Question Type : MCQ Option Shuffling : No Is Question Mandatory : No Calculator : None Response Time : N.A Think Time : N.A Minimum Instruction Time : 0

Correct Marks : 5 Wrong Marks : 1

Question Key Details :

Key	Value
Comprehension	MCQ1

रैखिक व्यंजनों के अंतर्गत उद्देश्य फलन का अधिकतम मान है :

- (1) $(0, 0)$ पर
- (2) सुसंगत क्षेत्र के केंद्र पर
- (3) सुसंगत क्षेत्र के किसी बिन्दु पर
- (4) सुसंगत क्षेत्र के एक कोनीय बिन्दु पर

Options :

212807129513. 1

212807129514. 2

212807129515. 3

212807129516. 4

Question Number : 900 Question Id : 21280732380 Question Type : MCQ Option Shuffling : No Is Question Mandatory : No Calculator : None
Response Time : N.A Think Time : N.A Minimum Instruction Time : 0

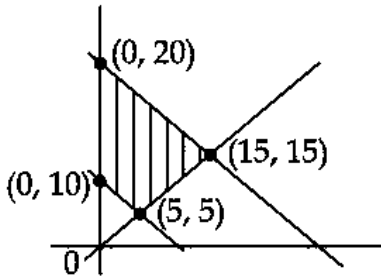
Correct Marks : 5 Wrong Marks : 1

Question Key Details :

Key	Value
Comprehension	MCQ1

The feasible region of an LPP is shown in the figure below.

If $z = 3x + 9y$, then the minimum value of z occurs at :



- (1) $(0, 10)$
- (2) $(0, 20)$
- (3) $(5, 5)$
- (4) $(15, 15)$

Options :

212807129517. 1

212807129518. 2

212807129519. 3

212807129520. 4

Question Number : 900 Question Id : 21280732380 Question Type : MCQ Option Shuffling : No Is Question Mandatory : No Calculator : None
Response Time : N.A Think Time : N.A Minimum Instruction Time : 0

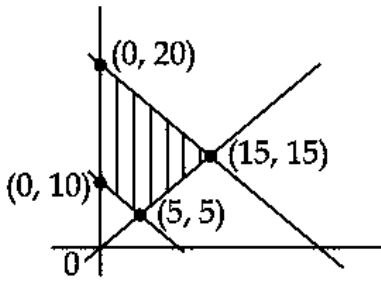
Correct Marks : 5 Wrong Marks : 1

Question Key Details :

Key	Value
Comprehension	MCQ1

LPP का सुसंगत क्षेत्र नीचे चित्र में दर्शाया गया है।

यदि $z = 3x + 9y$, तब z का न्यूनतम मान है :



- (1) (0, 10) पर
- (2) (0, 20) पर
- (3) (5, 5) पर
- (4) (15, 15) पर

Options :

212807129517. 1
 212807129518. 2
 212807129519. 3
 212807129520. 4

Core Mathematics

Section Id :	212807881
Section Number :	2
Section type :	Online
Mandatory or Optional :	Optional
Number of Questions :	35
Number of Questions to be attempted :	25
Section Marks :	125
Enable Mark as Answered Mark for Review and Clear Response :	Yes
Maximum Instruction Time :	0
Sub-Section Number :	1
Sub-Section Id :	2128072540
Question Shuffling Allowed :	Yes
Is Section Default? :	null

Question Number : 901 Question Id : 21280732381 Question Type : MCQ Option Shuffling : No Is Question Mandatory : No Calculator : None
 Response Time : N.A Think Time : N.A Minimum Instruction Time : 0

Correct Marks : 5 Wrong Marks : 1

Question Key Details :

Key	Value
Comprehension	MCQ2

If $f(x) = e^x$ and $g(x) = \log_e x = \ln x$, then $(g \circ f)(x)$ is

- (1) e
- (2) x
- (3) e^{2x}
- (4) $\log_e 2x$

Options :

212807129521. 1
 212807129522. 2
 212807129523. 3

Question Number : 901 Question Id : 21280732381 Question Type : MCQ Option Shuffling : No Is Question Mandatory : No Calculator : None
Response Time : N.A Think Time : N.A Minimum Instruction Time : 0

Correct Marks : 5 Wrong Marks : 1

Question Key Details :

Key	Value
Comprehension	MCQ2

यदि $f(x) = e^x$ और $g(x) = \log_e x = \ln x$, तब $(g \circ f)(x)$ है :

- (1) e
- (2) x
- (3) e^{2x}
- (4) $\log_e 2x$

Options :

212807129521. 1
212807129522. 2
212807129523. 3
212807129524. 4

Question Number : 902 Question Id : 21280732382 Question Type : MCQ Option Shuffling : No Is Question Mandatory : No Calculator : None
Response Time : N.A Think Time : N.A Minimum Instruction Time : 0

Correct Marks : 5 Wrong Marks : 1

Question Key Details :

Key	Value
Comprehension	MCQ2

The region R on the set $A = \{x \in \mathbb{Z} : 0 \leq x \leq 12\}$, given by $R = \{(a, b) : |a - b| \text{ is a multiple of } 4\}$ is :

- (1) Reflexive but not Symmetric
- (2) Reflexive but not Transitive
- (3) Symmetric but not Transitive
- (4) Equivalence relation

Options :

212807129525. 1
212807129526. 2
212807129527. 3
212807129528. 4

Question Number : 902 Question Id : 21280732382 Question Type : MCQ Option Shuffling : No Is Question Mandatory : No Calculator : None
Response Time : N.A Think Time : N.A Minimum Instruction Time : 0

Correct Marks : 5 Wrong Marks : 1

Question Key Details :

Key	Value
Comprehension	MCQ2

समुच्चय $A = \{x \in \mathbb{Z} : 0 \leq x \leq 12\}$ पर संबंध $R = \{(a, b) : |a - b| \text{ 4 का गुणज है}\}$, है :

- (1) स्वतुल्य परंतु सममित नहीं
- (2) स्वतुल्य परंतु संक्रामक नहीं
- (3) सममित परंतु संक्रामक नहीं
- (4) तुल्यता संबंध

Options :

212807129525. 1

212807129526. 2
212807129527. 3
212807129528. 4

Question Number : 903 Question Id : 21280732383 Question Type : MCQ Option Shuffling : No Is Question Mandatory : No Calculator : None
Response Time : N.A Think Time : N.A Minimum Instruction Time : 0

Correct Marks : 5 Wrong Marks : 1

Question Key Details :

Key	Value
Comprehension	MCQ2

The value of $\sin^{-1} \left[\cos \left(\sin^{-1} \frac{\sqrt{3}}{2} \right) \right]$ is :

(1) $\frac{\pi}{6}$

(2) $\frac{\pi}{3}$

(3) $\frac{\pi}{2}$

(4) $\frac{\pi}{4}$

Options :

212807129529. 1
212807129530. 2
212807129531. 3
212807129532. 4

Question Number : 903 Question Id : 21280732383 Question Type : MCQ Option Shuffling : No Is Question Mandatory : No Calculator : None
Response Time : N.A Think Time : N.A Minimum Instruction Time : 0

Correct Marks : 5 Wrong Marks : 1

Question Key Details :

Key	Value
Comprehension	MCQ2

$\sin^{-1} \left[\cos \left(\sin^{-1} \frac{\sqrt{3}}{2} \right) \right]$ का मान है :

(1) $\frac{\pi}{6}$

(2) $\frac{\pi}{3}$

(3) $\frac{\pi}{2}$

(4) $\frac{\pi}{4}$

Options :

212807129529. 1
212807129530. 2
212807129531. 3

Question Number : 904 Question Id : 21280732384 Question Type : MCQ Option Shuffling : No Is Question Mandatory : No Calculator : None
Response Time : N.A Think Time : N.A Minimum Instruction Time : 0

Correct Marks : 5 Wrong Marks : 1

Question Key Details :

Key	Value
Comprehension	MCQ2

If $2 \tan^{-1} \frac{1}{2} + \tan^{-1} \frac{1}{7} = \tan^{-1} x$, then value of x is :

(1) $\frac{31}{17}$

(2) $\frac{17}{31}$

(3) $\frac{4}{3}$

(4) $\frac{3}{4}$

Options :

212807129533. 1

212807129534. 2

212807129535. 3

212807129536. 4

Question Number : 904 Question Id : 21280732384 Question Type : MCQ Option Shuffling : No Is Question Mandatory : No Calculator : None
Response Time : N.A Think Time : N.A Minimum Instruction Time : 0

Correct Marks : 5 Wrong Marks : 1

Question Key Details :

Key	Value
Comprehension	MCQ2

यदि $2 \tan^{-1} \frac{1}{2} + \tan^{-1} \frac{1}{7} = \tan^{-1} x$, तब x का मान है :

(1) $\frac{31}{17}$

(2) $\frac{17}{31}$

(3) $\frac{4}{3}$

(4) $\frac{3}{4}$

Options :

212807129533. 1

212807129534. 2

212807129535. 3

212807129536. 4

Question Number : 905 Question Id : 21280732385 Question Type : MCQ Option Shuffling : No Is Question Mandatory : No Calculator : None
Response Time : N.A Think Time : N.A Minimum Instruction Time : 0

Correct Marks : 5 Wrong Marks : 1

Question Key Details :

Key	Value
Comprehension	MCQ2

If $\begin{bmatrix} 1 & 2 \\ 3 & 4 \end{bmatrix} \begin{bmatrix} 3 & 1 \\ 2 & 5 \end{bmatrix} = \begin{bmatrix} 7 & 11 \\ K & 23 \end{bmatrix}$, then value of K is :

- (1) 12
- (2) - 17
- (3) 17
- (4) - 12

Options :

212807129537. 1

212807129538. 2

212807129539. 3

212807129540. 4

Question Number : 905 Question Id : 21280732385 Question Type : MCQ Option Shuffling : No Is Question Mandatory : No Calculator : None
Response Time : N.A Think Time : N.A Minimum Instruction Time : 0

Correct Marks : 5 Wrong Marks : 1

Question Key Details :

Key	Value
Comprehension	MCQ2

यदि $\begin{bmatrix} 1 & 2 \\ 3 & 4 \end{bmatrix} \begin{bmatrix} 3 & 1 \\ 2 & 5 \end{bmatrix} = \begin{bmatrix} 7 & 11 \\ K & 23 \end{bmatrix}$, तब K का मान है :

- (1) 12
- (2) - 17
- (3) 17
- (4) - 12

Options :

212807129537. 1

212807129538. 2

212807129539. 3

212807129540. 4

Question Number : 906 Question Id : 21280732386 Question Type : MCQ Option Shuffling : No Is Question Mandatory : No Calculator : None
Response Time : N.A Think Time : N.A Minimum Instruction Time : 0

Correct Marks : 5 Wrong Marks : 1

Question Key Details :

Key	Value
Comprehension	MCQ2

If $A = \begin{pmatrix} 1 & -2 & 3 \\ -4 & 2 & 5 \end{pmatrix}$ and $B = \begin{pmatrix} 2 & 3 \\ 4 & 5 \\ 2 & 1 \end{pmatrix}$ and $BA = (b_{ij})$, then $b_{21} + b_{32} =$

- (1) -2
 (2) -16
 (3) 18
 (4) -18

Options :

212807129541. 1
 212807129542. 2
 212807129543. 3
 212807129544. 4

Question Number : 906 Question Id : 21280732386 Question Type : MCQ Option Shuffling : No Is Question Mandatory : No Calculator : None
 Response Time : N.A Think Time : N.A Minimum Instruction Time : 0
 Correct Marks : 5 Wrong Marks : 1

Question Key Details :

Key	Value
Comprehension	MCQ2

यदि $A = \begin{pmatrix} 1 & -2 & 3 \\ -4 & 2 & 5 \end{pmatrix}$ तथा $B = \begin{pmatrix} 2 & 3 \\ 4 & 5 \\ 2 & 1 \end{pmatrix}$ एवं $BA = (b_{ij})$, तब $b_{21} + b_{32} =$

- (1) -2
 (2) -16
 (3) 18
 (4) -18

Options :

212807129541. 1
 212807129542. 2
 212807129543. 3
 212807129544. 4

Question Number : 907 Question Id : 21280732387 Question Type : MCQ Option Shuffling : No Is Question Mandatory : No Calculator : None
 Response Time : N.A Think Time : N.A Minimum Instruction Time : 0
 Correct Marks : 5 Wrong Marks : 1

Question Key Details :

Key	Value
Comprehension	MCQ2

If $A = \begin{bmatrix} 1 & 3 & 5 \\ 1 & 0 & 3 \\ 0 & 1 & 0 \end{bmatrix}$, then $|\text{adj}A|$ is :

- (1) 2
 (2) 8
 (3) 4
 (4) 25

Options :

212807129545. 1
 212807129546. 2
 212807129547. 3
 212807129548. 4

Question Number : 907 Question Id : 21280732387 Question Type : MCQ Option Shuffling : No Is Question Mandatory : No Calculator : None Response Time : N.A Think Time : N.A Minimum Instruction Time : 0

Correct Marks : 5 Wrong Marks : 1

Question Key Details :

Key	Value
Comprehension	MCQ2

जब $A = \begin{bmatrix} 1 & 3 & 5 \\ 1 & 0 & 3 \\ 0 & 1 & 0 \end{bmatrix}$, तब $|(adjA)|$ है :

- (1) 2
 (2) 8
 (3) 4
 (4) 25

Options :

212807129545. 1
 212807129546. 2
 212807129547. 3
 212807129548. 4

Question Number : 908 Question Id : 21280732388 Question Type : MCQ Option Shuffling : No Is Question Mandatory : No Calculator : None Response Time : N.A Think Time : N.A Minimum Instruction Time : 0

Correct Marks : 5 Wrong Marks : 1

Question Key Details :

Key	Value
Comprehension	MCQ2

The value of K, if $\begin{vmatrix} 1 & K & 3 \\ 3 & K & -2 \\ 2 & 3 & -1 \end{vmatrix} = 33$, is :

- (1) -1
 (2) 0
 (3) 1
 (4) 2

Options :

212807129549. 1
 212807129550. 2
 212807129551. 3
 212807129552. 4

Question Number : 908 Question Id : 21280732388 Question Type : MCQ Option Shuffling : No Is Question Mandatory : No Calculator : None Response Time : N.A Think Time : N.A Minimum Instruction Time : 0

Correct Marks : 5 Wrong Marks : 1

Question Key Details :

Key	Value
Comprehension	MCQ2

यदि $\begin{vmatrix} 1 & K & 3 \\ 3 & K & -2 \\ 2 & 3 & -1 \end{vmatrix} = 33$, K का मान है :

- (1) -1
 (2) 0
 (3) 1
 (4) 2

Options :

212807129549. 1
 212807129550. 2
 212807129551. 3
 212807129552. 4

Question Number : 909 Question Id : 21280732389 Question Type : MCQ Option Shuffling : No Is Question Mandatory : No Calculator : None
 Response Time : N.A Think Time : N.A Minimum Instruction Time : 0

Correct Marks : 5 Wrong Marks : 1

Question Key Details :

Key	Value
Comprehension	MCQ2

The value of $\det(A^2 - 2A)$, if $A = \begin{pmatrix} 1 & 3 \\ 2 & 1 \end{pmatrix}$, is

- (1) 5
 (2) -5
 (3) 25
 (4) -25

Options :

212807129553. 1
 212807129554. 2
 212807129555. 3
 212807129556. 4

Question Number : 909 Question Id : 21280732389 Question Type : MCQ Option Shuffling : No Is Question Mandatory : No Calculator : None
 Response Time : N.A Think Time : N.A Minimum Instruction Time : 0

Correct Marks : 5 Wrong Marks : 1

Question Key Details :

Key	Value
Comprehension	MCQ2

यदि $A = \begin{pmatrix} 1 & 3 \\ 2 & 1 \end{pmatrix}$, $\det(A^2 - 2A)$ का मान है :

- (1) 5
 (2) -5
 (3) 25
 (4) -25

Options :

212807129553. 1
 212807129554. 2
 212807129555. 3

Question Number : 910 Question Id : 21280732390 Question Type : MCQ Option Shuffling : No Is Question Mandatory : No Calculator : None
Response Time : N.A Think Time : N.A Minimum Instruction Time : 0

Correct Marks : 5 Wrong Marks : 1

Question Key Details :

Key	Value
Comprehension	MCQ2

If $\begin{vmatrix} x+4 & 2x & 2x \\ 2x & x+4 & 2x \\ 2x & 2x & x+4 \end{vmatrix} = \lambda(4-x)^2$, then value of λ is :

- (1) $\lambda = 4x + 5$
 (2) $\lambda = 5x + 4$
 (3) $\lambda = 4 - x$
 (4) $\lambda = x - 4$

Options :

212807129557. 1
 212807129558. 2
 212807129559. 3
 212807129560. 4

Question Number : 910 Question Id : 21280732390 Question Type : MCQ Option Shuffling : No Is Question Mandatory : No Calculator : None
Response Time : N.A Think Time : N.A Minimum Instruction Time : 0

Correct Marks : 5 Wrong Marks : 1

Question Key Details :

Key	Value
Comprehension	MCQ2

यदि $\begin{vmatrix} x+4 & 2x & 2x \\ 2x & x+4 & 2x \\ 2x & 2x & x+4 \end{vmatrix} = \lambda(4-x)^2$, तब λ का मान है :

- (1) $\lambda = 4x + 5$
 (2) $\lambda = 5x + 4$
 (3) $\lambda = 4 - x$
 (4) $\lambda = x - 4$

Options :

212807129557. 1
 212807129558. 2
 212807129559. 3
 212807129560. 4

Question Number : 911 Question Id : 21280732391 Question Type : MCQ Option Shuffling : No Is Question Mandatory : No Calculator : None
Response Time : N.A Think Time : N.A Minimum Instruction Time : 0

Correct Marks : 5 Wrong Marks : 1

Question Key Details :

Key	Value
Comprehension	MCQ2

For which value of λ is the function, $f(x) = \begin{cases} \lambda(x^2 - 2x) & \text{if } x \leq 0 \\ 4x + 1 & \text{if } x > 0 \end{cases}$ continuous at $x = 0$?

- (1) $\lambda = 0$
- (2) $\lambda = 1$
- (3) $\lambda = -1$
- (4) for no value of λ

Options :

- 212807129561. 1
- 212807129562. 2
- 212807129563. 3
- 212807129564. 4

Question Number : 911 Question Id : 21280732391 Question Type : MCQ Option Shuffling : No Is Question Mandatory : No Calculator : None Response Time : N.A Think Time : N.A Minimum Instruction Time : 0

Correct Marks : 5 Wrong Marks : 1

Question Key Details :

Key	Value
Comprehension	MCQ2

λ के किस मान के लिए फलन, $f(x) = \begin{cases} \lambda(x^2 - 2x) & \text{यदि } x \leq 0 \\ 4x + 1 & \text{यदि } x > 0 \end{cases}$ $x = 0$ पर संतत है।

- (1) $\lambda = 0$
- (2) $\lambda = 1$
- (3) $\lambda = -1$
- (4) λ के किसी मान के लिए नहीं।

Options :

- 212807129561. 1
- 212807129562. 2
- 212807129563. 3
- 212807129564. 4

Question Number : 912 Question Id : 21280732392 Question Type : MCQ Option Shuffling : No Is Question Mandatory : No Calculator : None Response Time : N.A Think Time : N.A Minimum Instruction Time : 0

Correct Marks : 5 Wrong Marks : 1

Question Key Details :

Key	Value
Comprehension	MCQ2

The derivative $\frac{dy}{dx}$, if $x = a(\theta - \sin\theta)$, $y = a(1 + \cos\theta)$ is :

- (1) $\cos\frac{\theta}{2}$
- (2) $-\cot\frac{\theta}{2}$
- (3) $\cot\frac{\theta}{2}$
- (4) $\tan\frac{\theta}{2}$

Options :

- 212807129565. 1
- 212807129566. 2
- 212807129567. 3
- 212807129568. 4

Question Number : 912 Question Id : 21280732392 Question Type : MCQ Option Shuffling : No Is Question Mandatory : No Calculator : None
Response Time : N.A Think Time : N.A Minimum Instruction Time : 0

Correct Marks : 5 Wrong Marks : 1

Question Key Details :

Key	Value
Comprehension	MCQ2

यदि $x = a(\theta - \sin\theta)$, $y = a(1 + \cos\theta)$, अवकलज $\frac{dy}{dx}$ है :

- (1) $\cos\frac{\theta}{2}$
- (2) $-\cot\frac{\theta}{2}$
- (3) $\cot\frac{\theta}{2}$
- (4) $\tan\frac{\theta}{2}$

Options :

- 212807129565. 1
- 212807129566. 2
- 212807129567. 3
- 212807129568. 4

Question Number : 913 Question Id : 21280732393 Question Type : MCQ Option Shuffling : No Is Question Mandatory : No Calculator : None
Response Time : N.A Think Time : N.A Minimum Instruction Time : 0

Correct Marks : 5 Wrong Marks : 1

Question Key Details :

Key	Value
Comprehension	MCQ2

If $y = \sin^{-1}x$ and $(1 - x^2)\frac{d^2y}{dx^2} - x\frac{dy}{dx} = K$, then value of K is :

- (1) 2
- (2) $\frac{1}{2}$
- (3) 0
- (4) 1

Options :

- 212807129569. 1
- 212807129570. 2
- 212807129571. 3
- 212807129572. 4

Question Number : 913 Question Id : 21280732393 Question Type : MCQ Option Shuffling : No Is Question Mandatory : No Calculator : None
Response Time : N.A Think Time : N.A Minimum Instruction Time : 0

Correct Marks : 5 Wrong Marks : 1

Question Key Details :

Key	Value
Comprehension	MCQ2

यदि $y = \sin^{-1}x$ और $(1 - x^2) \frac{d^2y}{dx^2} - x \frac{dy}{dx} = K$, तब K का मान है :

(1) 2

(2) $\frac{1}{2}$

(3) 0

(4) 1

Options :

212807129569. 1

212807129570. 2

212807129571. 3

212807129572. 4

Question Number : 914 Question Id : 21280732394 Question Type : MCQ Option Shuffling : No Is Question Mandatory : No Calculator : None
Response Time : N.A Think Time : N.A Minimum Instruction Time : 0

Correct Marks : 5 Wrong Marks : 1

Question Key Details :

Key	Value
Comprehension	MCQ2

The tangent to the curve $x = \cos t(3 - 2\cos^2 t)$, $y = \sin t(3 - 2\sin^2 t)$ at $t = \frac{\pi}{4}$, makes with the x-axis an angle :

(1) 0

(2) $\frac{\pi}{4}$

(3) $\frac{\pi}{6}$

(4) $\frac{\pi}{3}$

Options :

212807129573. 1

212807129574. 2

212807129575. 3

212807129576. 4

Question Number : 914 Question Id : 21280732394 Question Type : MCQ Option Shuffling : No Is Question Mandatory : No Calculator : None
Response Time : N.A Think Time : N.A Minimum Instruction Time : 0

Correct Marks : 5 Wrong Marks : 1

Question Key Details :

Key	Value
Comprehension	MCQ2

वक्र $x = \cos t(3 - 2\cos^2 t)$, $y = \sin t(3 - 2\sin^2 t)$ के लिए $t = \frac{\pi}{4}$ पर स्पर्श रेखा का x -अक्ष के साथ कोण है :

(1) 0

(2) $\frac{\pi}{4}$

(3) $\frac{\pi}{6}$

(4) $\frac{\pi}{3}$

Options :

212807129573. 1

212807129574. 2

212807129575. 3

212807129576. 4

Question Number : 915 Question Id : 21280732395 Question Type : MCQ Option Shuffling : No Is Question Mandatory : No Calculator : None
Response Time : N.A Think Time : N.A Minimum Instruction Time : 0

Correct Marks : 5 Wrong Marks : 1

Question Key Details :

Key	Value
Comprehension	MCQ2

The function $f(x) = \sin x + \cos x$, $0 \leq x \leq 2\pi$ is :

(1) strictly decreasing in $\left[0, \frac{\pi}{4}\right)$

(2) strictly increasing in $\left(\frac{\pi}{4}, \frac{5\pi}{4}\right)$

(3) strictly decreasing in $\left(\frac{5\pi}{4}, 2\pi\right]$

(4) strictly increasing in $\left(\frac{5\pi}{4}, 2\pi\right]$

Options :

212807129577. 1

212807129578. 2

212807129579. 3

212807129580. 4

Question Number : 915 Question Id : 21280732395 Question Type : MCQ Option Shuffling : No Is Question Mandatory : No Calculator : None
Response Time : N.A Think Time : N.A Minimum Instruction Time : 0

Correct Marks : 5 Wrong Marks : 1

Question Key Details :

Key	Value
Comprehension	MCQ2

फलन $f(x) = \sin x + \cos x$, $0 \leq x \leq 2\pi$ है :

(1) $\left[0, \frac{\pi}{4}\right)$ में निरंतर ह्रासमान है

(2) $\left(\frac{\pi}{4}, \frac{5\pi}{4}\right)$ में निरंतर वर्धमान है

(3) $\left(\frac{5\pi}{4}, 2\pi\right]$ में निरंतर ह्रासमान है

(4) $\left(\frac{5\pi}{4}, 2\pi\right]$ में निरंतर वर्धमान है

Options :

212807129577. 1
212807129578. 2
212807129579. 3
212807129580. 4

Question Number : 916 Question Id : 21280732396 Question Type : MCQ Option Shuffling : No Is Question Mandatory : No Calculator : None
Response Time : N.A Think Time : N.A Minimum Instruction Time : 0

Correct Marks : 5 Wrong Marks : 1

Question Key Details :

Key	Value
Comprehension	MCQ2

The value of C in Rolle's theorem for the function $f(x) = e^x \sin x$, $x \in [0, \pi]$, is :

(1) $\frac{\pi}{6}$

(2) $\frac{\pi}{4}$

(3) $\frac{\pi}{2}$

(4) $\frac{3\pi}{4}$

Options :

212807129581. 1
212807129582. 2
212807129583. 3
212807129584. 4

Question Number : 916 Question Id : 21280732396 Question Type : MCQ Option Shuffling : No Is Question Mandatory : No Calculator : None
Response Time : N.A Think Time : N.A Minimum Instruction Time : 0

Correct Marks : 5 Wrong Marks : 1

Question Key Details :

Key	Value
Comprehension	MCQ2

रैले प्रमेय में फलन $f(x) = e^x \sin x$, $x \in [0, \pi]$, के लिए C का मान है :

- (1) $\frac{\pi}{6}$
 (2) $\frac{\pi}{4}$
 (3) $\frac{\pi}{2}$
 (4) $\frac{3\pi}{4}$

Options :

212807129581. 1
 212807129582. 2
 212807129583. 3
 212807129584. 4

Question Number : 917 Question Id : 21280732397 Question Type : MCQ Option Shuffling : No Is Question Mandatory : No Calculator : None
 Response Time : N.A Think Time : N.A Minimum Instruction Time : 0

Correct Marks : 5 Wrong Marks : 1

Question Key Details :

Key	Value
Comprehension	MCQ2

$$\int_{\frac{\pi}{6}}^{\frac{\pi}{3}} \frac{1}{1 + \sqrt{\cot x}} dx =$$

- (1) $\frac{\pi}{12}$
 (2) $\frac{\pi^2}{12}$
 (3) $\frac{\pi}{6}$
 (4) $\frac{\pi}{2}$

Options :

212807129585. 1
 212807129586. 2
 212807129587. 3
 212807129588. 4

Question Number : 917 Question Id : 21280732397 Question Type : MCQ Option Shuffling : No Is Question Mandatory : No Calculator : None
 Response Time : N.A Think Time : N.A Minimum Instruction Time : 0

Correct Marks : 5 Wrong Marks : 1

Question Key Details :

Key	Value
Comprehension	MCQ2

$$\int_{\frac{\pi}{6}}^{\frac{\pi}{3}} \frac{1}{1 + \sqrt{\cot x}} dx =$$

(1) $\frac{\pi}{12}$

(2) $\frac{\pi^2}{12}$

(3) $\frac{\pi}{6}$

(4) $\frac{\pi}{2}$

Options :

212807129585. 1
 212807129586. 2
 212807129587. 3
 212807129588. 4

Question Number : 918 Question Id : 21280732398 Question Type : MCQ Option Shuffling : No Is Question Mandatory : No Calculator : None
 Response Time : N.A Think Time : N.A Minimum Instruction Time : 0

Correct Marks : 5 Wrong Marks : 1

Question Key Details :

Key	Value
Comprehension	MCQ2

If $\int e^x (\tan x + 1) \sec x dx = e^x f(x) + C$, then $f(x)$ is :

- (A) e^x
 (B) $\tan x$
 (C) $\sec x$
 (D) $\sec x \tan x$

Choose the correct answer from the options given below :

- (1) (A) Only
 (2) (B) Only
 (3) (C) Only
 (4) (D) Only

Options :

212807129589. 1
 212807129590. 2
 212807129591. 3
 212807129592. 4

Question Number : 918 Question Id : 21280732398 Question Type : MCQ Option Shuffling : No Is Question Mandatory : No Calculator : None
 Response Time : N.A Think Time : N.A Minimum Instruction Time : 0

Correct Marks : 5 Wrong Marks : 1

Question Key Details :

Key	Value
Comprehension	MCQ2

यदि $\int e^x (\tan x + 1) \sec x dx = e^x f(x) + C$, तब $f(x)$ है :

- (A) e^x
- (B) $\tan x$
- (C) $\sec x$
- (D) $\sec x \tan x$

नीचे दिए गए विकल्पों में से सही उत्तर का चयन कीजिए :

- (1) केवल (A)
- (2) केवल (B)
- (3) केवल (C)
- (4) केवल (D)

Options :

- 212807129589. 1
- 212807129590. 2
- 212807129591. 3
- 212807129592. 4

Question Number : 919 Question Id : 21280732399 Question Type : MCQ Option Shuffling : No Is Question Mandatory : No Calculator : None Response Time : N.A Think Time : N.A Minimum Instruction Time : 0

Correct Marks : 5 Wrong Marks : 1

Question Key Details :

Key	Value
Comprehension	MCQ2

The ratio of areas under the curves $y = \sin x$ and $y = \sin 2x$, from $x = 0$ to $x = \frac{\pi}{3}$ is :

- (1) 3 : 2
- (2) 2 : 3
- (3) $\sqrt{3} : 1$
- (4) $1 : \sqrt{3}$

Options :

- 212807129593. 1
- 212807129594. 2
- 212807129595. 3
- 212807129596. 4

Question Number : 919 Question Id : 21280732399 Question Type : MCQ Option Shuffling : No Is Question Mandatory : No Calculator : None Response Time : N.A Think Time : N.A Minimum Instruction Time : 0

Correct Marks : 5 Wrong Marks : 1

Question Key Details :

Key	Value
Comprehension	MCQ2

वक्रों $y = \sin x$ व $y = \sin 2x$ के अन्तर्गत पर $x = 0$ से $x = \frac{\pi}{3}$ के बीच क्षेत्रफलों का अनुपात है :

- (1) 3 : 2
(2) 2 : 3
(3) $\sqrt{3} : 1$
(4) $1 : \sqrt{3}$

Options :

212807129593. 1
212807129594. 2
212807129595. 3
212807129596. 4

Question Number : 920 Question Id : 21280732400 Question Type : MCQ Option Shuffling : No Is Question Mandatory : No Calculator : None
Response Time : N.A Think Time : N.A Minimum Instruction Time : 0

Correct Marks : 5 Wrong Marks : 1

Question Key Details :

Key	Value
Comprehension	MCQ2

The area of the region bounded by the curve $y^2 = 4x$, y -axis and the line $y = 2$, is :

- (1) $\frac{2}{3}$ sq. units
(2) $\frac{4}{3}$ sq. units
(3) $\frac{3}{2}$ sq. units
(4) $\frac{3}{4}$ sq. units

Options :

212807129597. 1
212807129598. 2
212807129599. 3
212807129600. 4

Question Number : 920 Question Id : 21280732400 Question Type : MCQ Option Shuffling : No Is Question Mandatory : No Calculator : None
Response Time : N.A Think Time : N.A Minimum Instruction Time : 0

Correct Marks : 5 Wrong Marks : 1

Question Key Details :

Key	Value
Comprehension	MCQ2

वक्र $y^2 = 4x$, y -axis और रेखा $y = 2$ से घिरे क्षेत्र का क्षेत्रफल है :

- (1) $\frac{2}{3}$ वर्ग इकाई
(2) $\frac{4}{3}$ वर्ग इकाई
(3) $\frac{3}{2}$ वर्ग इकाई
(4) $\frac{3}{4}$ वर्ग इकाई

Options :

212807129597. 1
212807129598. 2
212807129599. 3
212807129600. 4

Question Number : 921 Question Id : 21280732401 Question Type : MCQ Option Shuffling : No Is Question Mandatory : No Calculator : None
Response Time : N.A Think Time : N.A Minimum Instruction Time : 0

Correct Marks : 5 Wrong Marks : 1

Question Key Details :

Key	Value
Comprehension	MCQ2

The number of solutions of the equation $xydx - (x^2 - y^2)dy = 0$ with $y(2) = 3$ is :

- (1) None
(2) One
(3) Two
(4) Infinite

Options :

212807129601. 1
212807129602. 2
212807129603. 3
212807129604. 4

Question Number : 921 Question Id : 21280732401 Question Type : MCQ Option Shuffling : No Is Question Mandatory : No Calculator : None
Response Time : N.A Think Time : N.A Minimum Instruction Time : 0

Correct Marks : 5 Wrong Marks : 1

Question Key Details :

Key	Value
Comprehension	MCQ2

$y(2) = 3$ के साथ समीकरण $xydx - (x^2 - y^2)dy = 0$ के हलों की संख्या है :

- (1) कोई हल नहीं
(2) एक
(3) दो
(4) अनंत हल

Options :

212807129601. 1
212807129602. 2

212807129603. 3
212807129604. 4

Question Number : 922 Question Id : 21280732402 Question Type : MCQ Option Shuffling : No Is Question Mandatory : No Calculator : None
Response Time : N.A Think Time : N.A Minimum Instruction Time : 0
Correct Marks : 5 Wrong Marks : 1

Question Key Details :

Key	Value
Comprehension	MCQ2

Solution of a differential equation $(1 + y^2)dx = (\tan^{-1}y - x)dy$ is :

(1) $ye^{\tan^{-1}y} = e^{\tan^{-1}y}(\tan^{-1}y + 1) + C$

(2) $ye^{\tan^{-1}y} = e^{\tan^{-1}y}(\tan^{-1}y - 1) + C$

(3) $xe^{\tan^{-1}y} = e^{\tan^{-1}y}(\tan^{-1}y - 1) + C$

(4) $xe^{\tan^{-1}y} = e^{\tan^{-1}y}(\tan^{-1}y + 1) + C$

(where C is the constant of Integration)

Options :

212807129605. 1
212807129606. 2
212807129607. 3
212807129608. 4

Question Number : 922 Question Id : 21280732402 Question Type : MCQ Option Shuffling : No Is Question Mandatory : No Calculator : None
Response Time : N.A Think Time : N.A Minimum Instruction Time : 0
Correct Marks : 5 Wrong Marks : 1

Question Key Details :

Key	Value
Comprehension	MCQ2

अवकलन समीकरण $(1 + y^2)dx = (\tan^{-1}y - x)dy$ का हल है :

(1) $ye^{\tan^{-1}y} = e^{\tan^{-1}y}(\tan^{-1}y + 1) + C$

(2) $ye^{\tan^{-1}y} = e^{\tan^{-1}y}(\tan^{-1}y - 1) + C$

(3) $xe^{\tan^{-1}y} = e^{\tan^{-1}y}(\tan^{-1}y - 1) + C$

(4) $xe^{\tan^{-1}y} = e^{\tan^{-1}y}(\tan^{-1}y + 1) + C$

(यहाँ C स्वेच्छ अचर है)

Options :

212807129605. 1
212807129606. 2
212807129607. 3
212807129608. 4

Question Number : 923 Question Id : 21280732403 Question Type : MCQ Option Shuffling : No Is Question Mandatory : No Calculator : None
Response Time : N.A Think Time : N.A Minimum Instruction Time : 0
Correct Marks : 5 Wrong Marks : 1

Question Key Details :

Key	Value
Comprehension	MCQ2

A vector \vec{r} is inclined at equal angles to the three axes. If the magnitude of \vec{r} is $3\sqrt{3}$ units, then the value of \vec{r} is :

(1) $\pm 3(\hat{i} + \hat{j} + \hat{k})$

(2) $\pm 2(\hat{i} + \hat{j} + \hat{k})$

(3) $\pm(\hat{i} + \hat{j} + \hat{k})$

(4) $\pm 3(\hat{i} - \hat{j} - \hat{k})$

Options :

212807129609. 1

212807129610. 2

212807129611. 3

212807129612. 4

Question Number : 923 Question Id : 21280732403 Question Type : MCQ Option Shuffling : No Is Question Mandatory : No Calculator : None Response Time : N.A Think Time : N.A Minimum Instruction Time : 0

Correct Marks : 5 Wrong Marks : 1

Question Key Details :

Key	Value
Comprehension	MCQ2

एक सदिश \vec{r} तीनों अक्षों से समान कोणों पर झुका हुआ है। यदि सदिश \vec{r} का परिमाण $3\sqrt{3}$ इकाई है, तो सदिश \vec{r} का मान है :

(1) $\pm 3(\hat{i} + \hat{j} + \hat{k})$

(2) $\pm 2(\hat{i} + \hat{j} + \hat{k})$

(3) $\pm(\hat{i} + \hat{j} + \hat{k})$

(4) $\pm 3(\hat{i} - \hat{j} - \hat{k})$

Options :

212807129609. 1

212807129610. 2

212807129611. 3

212807129612. 4

Question Number : 924 Question Id : 21280732404 Question Type : MCQ Option Shuffling : No Is Question Mandatory : No Calculator : None Response Time : N.A Think Time : N.A Minimum Instruction Time : 0

Correct Marks : 5 Wrong Marks : 1

Question Key Details :

Key	Value
Comprehension	MCQ2

Which is true from the following ?

- (A) Any vector \vec{r} in space can be written as $\left(\vec{r} \cdot \hat{i}\right)\hat{i} + \left(\vec{r} \cdot \hat{j}\right)\hat{j} + \left(\vec{r} \cdot \hat{k}\right)\hat{k}$
- (B) If \vec{a} is perpendicular to \vec{b} , $\left|\vec{a} + \vec{b}\right|^2 = \left|\vec{a}\right|^2 + \left|\vec{b}\right|^2$
- (C) If $\left|\vec{a}\right| = 2, \left|\vec{b}\right| = 1$ and $\vec{a} \cdot \vec{b} = 1$, the value of $\left(3\vec{a} - 5\vec{b}\right) \cdot \left(2\vec{a} + 7\vec{b}\right)$ is 1
- (D) $\vec{a} = 5\hat{i} - \hat{j} - 3\hat{k}$ and $\vec{b} = \hat{i} + 3\hat{j} - 5\hat{k}$, the angle between $\vec{a} + \vec{b}$ and $\vec{a} - \vec{b}$ is 60°

Choose the correct answer from the options given below :

- (1) (A) and (B) Only
- (2) (B) Only
- (3) (C) Only
- (4) (D) Only

Options :

212807129613. 1

212807129614. 2

212807129615. 3

212807129616. 4

Question Number : 924 Question Id : 21280732404 Question Type : MCQ Option Shuffling : No Is Question Mandatory : No Calculator : None
Response Time : N.A Think Time : N.A Minimum Instruction Time : 0

Correct Marks : 5 Wrong Marks : 1

Question Key Details :

Key	Value
Comprehension	MCQ2

निम्नलिखित में से कौन सा सत्य है?

(A) कोई भी स्थानिक सदिश \vec{r} , लिखा जा सकता है ; $(\vec{r} \cdot \hat{i})\hat{i} + (\vec{r} \cdot \hat{j})\hat{j} + (\vec{r} \cdot \hat{k})\hat{k}$

(B) यदि \vec{a} , \vec{b} पर लम्ब है $|\vec{a} + \vec{b}|^2 = |\vec{a}|^2 + |\vec{b}|^2$

(C) यदि $|\vec{a}|=2, |\vec{b}|=1$ और $\vec{a} \cdot \vec{b}=1$, $(3\vec{a} - 5\vec{b}) \cdot (2\vec{a} + 7\vec{b})$ का मान 1 है

(D) $\vec{a} = 5\hat{i} - \hat{j} - 3\hat{k}$ और $\vec{b} = \hat{i} + 3\hat{j} - 5\hat{k}$, $\vec{a} + \vec{b}$ और $\vec{a} - \vec{b}$ के मध्य कोण 60° है

नीचे दिए गए विकल्पों में से सही उत्तर का चयन कीजिए :

- (1) केवल (A) और (B)
- (2) केवल (B)
- (3) केवल (C)
- (4) केवल (D)

Options :

212807129613. 1

212807129614. 2

212807129615. 3

212807129616. 4

Question Number : 925 Question Id : 21280732405 Question Type : MCQ Option Shuffling : No Is Question Mandatory : No Calculator : None Response Time : N.A Think Time : N.A Minimum Instruction Time : 0

Correct Marks : 5 Wrong Marks : 1

Question Key Details :

Key	Value
Comprehension	MCQ2

If the planes $\vec{r} \cdot (2\hat{i} - \lambda\hat{j} + 3\hat{k}) = 0$ and $\vec{r} \cdot (\lambda\hat{i} + 5\hat{j} - \hat{k}) = 5$ are perpendicular to each other, then value of $\lambda^2 + \lambda$ is :

- (1) 0
- (2) - 2
- (3) - 1
- (4) 2

Options :

212807129617. 1

212807129618. 2

212807129619. 3

212807129620. 4

Question Number : 925 Question Id : 21280732405 Question Type : MCQ Option Shuffling : No Is Question Mandatory : No Calculator : None Response Time : N.A Think Time : N.A Minimum Instruction Time : 0

Correct Marks : 5 Wrong Marks : 1

Question Key Details :

Key	Value
Comprehension	MCQ2

यदि तल $\vec{r} \cdot (2\hat{i} - \lambda\hat{j} + 3\hat{k}) = 0$ और $\vec{r} \cdot (\lambda\hat{i} + 5\hat{j} - \hat{k}) = 5$ एक-दूसरे पर लम्ब हैं, तो $\lambda^2 + \lambda$ का मान है :

- (1) 0
- (2) -2
- (3) -1
- (4) 2

Options :

212807129617. 1
212807129618. 2
212807129619. 3
212807129620. 4

Question Number : 926 Question Id : 21280732406 Question Type : MCQ Option Shuffling : No Is Question Mandatory : No Calculator : None Response Time : N.A Think Time : N.A Minimum Instruction Time : 0

Correct Marks : 5 Wrong Marks : 1

Question Key Details :

Key	Value
Comprehension	MCQ2

The lines $\frac{x-2}{1} = \frac{y-3}{1} = \frac{z-4}{-K}$ and $\frac{x-1}{K} = \frac{y-4}{2} = \frac{z-5}{1}$ are coplanar if :

- (1) $K=0$ or $K=-1$
- (2) $K=1$ or -1
- (3) $K=0$ or -3
- (4) $K=3$ or -3

Options :

212807129621. 1
212807129622. 2
212807129623. 3
212807129624. 4

Question Number : 926 Question Id : 21280732406 Question Type : MCQ Option Shuffling : No Is Question Mandatory : No Calculator : None Response Time : N.A Think Time : N.A Minimum Instruction Time : 0

Correct Marks : 5 Wrong Marks : 1

Question Key Details :

Key	Value
Comprehension	MCQ2

रेखाएँ $\frac{x-2}{1} = \frac{y-3}{1} = \frac{z-4}{-K}$ और $\frac{x-1}{K} = \frac{y-4}{2} = \frac{z-5}{1}$ एक तलीय हैं यदि :

- (1) $K=0$ या $K=-1$
- (2) $K=1$ या -1
- (3) $K=0$ या -3
- (4) $K=3$ या -3

Options :

212807129621. 1
212807129622. 2
212807129623. 3
212807129624. 4

Question Number : 927 Question Id : 21280732407 Question Type : MCQ Option Shuffling : No Is Question Mandatory : No Calculator : None
Response Time : N.A Think Time : N.A Minimum Instruction Time : 0

Correct Marks : 5 Wrong Marks : 1

Question Key Details :

Key	Value
Comprehension	MCQ2

Corners points of the feasible region for an LPP are $(1, 1)$ $(2, 0)$ $(3, 1)$ $\left(\frac{3}{2}, 4\right)$, and $(0, 5)$. Let

$z = px + 4y$, $p > 0$ be the objective function. If maximum of z occurs at $\left(\frac{3}{2}, 4\right)$ and $(3, 1)$, then the

value of p is :

- (1) 2
- (2) 4
- (3) 6
- (4) 8

Options :

- 212807129625. 1
- 212807129626. 2
- 212807129627. 3
- 212807129628. 4

Question Number : 927 Question Id : 21280732407 Question Type : MCQ Option Shuffling : No Is Question Mandatory : No Calculator : None
Response Time : N.A Think Time : N.A Minimum Instruction Time : 0

Correct Marks : 5 Wrong Marks : 1

Question Key Details :

Key	Value
Comprehension	MCQ2

एक LPP के लिए सुसंगत क्षेत्र के कोनीय बिन्दु $(1, 1)$ $(2, 0)$ $(3, 1)$ $\left(\frac{3}{2}, 4\right)$ एवं $(0, 5)$ हैं। माना $z = px + 4y$, $p > 0$ उद्देश्य

फलन है। यदि $\left(\frac{3}{2}, 4\right)$ और $(3, 1)$ पर z अधिकतम हो, तो p का मान है :

- (1) 2
- (2) 4
- (3) 6
- (4) 8

Options :

- 212807129625. 1
- 212807129626. 2
- 212807129627. 3
- 212807129628. 4

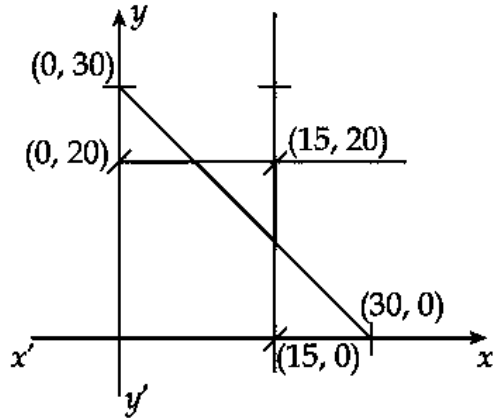
Question Number : 928 Question Id : 21280732408 Question Type : MCQ Option Shuffling : No Is Question Mandatory : No Calculator : None
Response Time : N.A Think Time : N.A Minimum Instruction Time : 0

Correct Marks : 5 Wrong Marks : 1

Question Key Details :

Key	Value
Comprehension	MCQ2

Objective function $z = 30x - 30y$ is subject to which combination of constraints, with feasible solution shown in the figure.



- (A) $x \geq 0, y \geq 0, x \leq 15$
- (B) $y \leq 20, x + y \leq 30$
- (C) $x + y \leq 30, x + y \leq 15, 2x - y \leq 5$
- (D) $2x + y \leq 30, x + y \leq 15, x \geq 15$
- (E) $3x + y \leq 30, x + 3y \leq 15, y \geq 20$

Choose the **correct** answer from the options given below :

- (1) (A), (B) and (C) Only
- (2) (A) and (B) Only
- (3) (A) and (D) Only
- (4) (A) and (E) Only

Options :

- 212807129629. 1
- 212807129630. 2
- 212807129631. 3
- 212807129632. 4

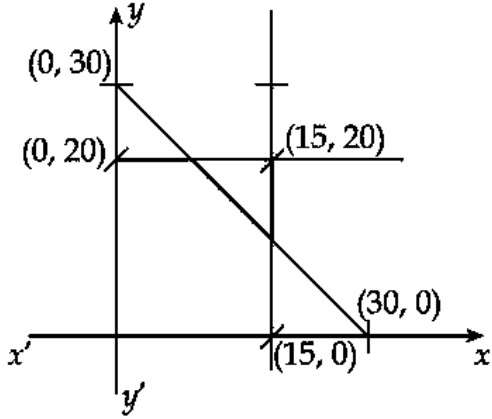
Question Number : 928 Question Id : 21280732408 Question Type : MCQ Option Shuffling : No Is Question Mandatory : No Calculator : None Response Time : N.A Think Time : N.A Minimum Instruction Time : 0

Correct Marks : 5 Wrong Marks : 1

Question Key Details :

Key	Value
Comprehension	MCQ2

नीचे दर्शाये गये चित्र के अनुसार किन व्यवरोधों संयोजन के अन्तर्गत उद्देश्य फलन $z = 30x - 30y$ का सुसंगत हल है :



- (A) $x \geq 0, y \geq 0, x \leq 15$
 (B) $y \leq 20, x + y \leq 30$
 (C) $x + y \leq 30, x + y \leq 15, 2x - y \leq 5$
 (D) $2x + y \leq 30, x + y \leq 15, x \geq 15$
 (E) $3x + y \leq 30, x + 3y \leq 15, y \geq 20$

नीचे दिए गए विकल्पों में से सही उत्तर का चयन कीजिए :

- (1) केवल (A), (B) और (C)
 (2) केवल (A) और (B)
 (3) केवल (A) और (D)
 (4) केवल (A) और (E)

Options :

212807129629. 1
 212807129630. 2
 212807129631. 3
 212807129632. 4

Question Number : 929 Question Id : 21280732409 Question Type : MCQ Option Shuffling : No Is Question Mandatory : No Calculator : None
 Response Time : N.A Think Time : N.A Minimum Instruction Time : 0

Correct Marks : 5 Wrong Marks : 1

Question Key Details :

Key	Value
Comprehension	MCQ2

Anita and Bikram are two students. Their chances of solving a problem correctly are $\frac{1}{3}$ and $\frac{1}{4}$ respectively. If their probability of making a common error is $\frac{1}{20}$ and they both obtain same answer then the probability that their answer is correct, is :

(1) $\frac{1}{12}$

(2) $\frac{1}{40}$

(3) $\frac{13}{120}$

(4) $\frac{10}{13}$

Options :

212807129633. 1

212807129634. 2

212807129635. 3

212807129636. 4

Question Number : 929 Question Id : 21280732409 Question Type : MCQ Option Shuffling : No Is Question Mandatory : No Calculator : None Response Time : N.A Think Time : N.A Minimum Instruction Time : 0

Correct Marks : 5 Wrong Marks : 1

Question Key Details :

Key	Value
Comprehension	MCQ2

अनीता और बिक्रम दो विद्यार्थी हैं। उनके द्वारा प्रश्न को सही हल करने की संभावना क्रमशः $\frac{1}{3}$ और $\frac{1}{4}$ है। यदि सामान्य त्रुटि करने की उनकी प्रायिकता $\frac{1}{20}$ है और वे दोनों समान हल प्राप्त करते हैं, तो उनके हल के सही होने की प्रायिकता है :

(1) $\frac{1}{12}$

(2) $\frac{1}{40}$

(3) $\frac{13}{120}$

(4) $\frac{10}{13}$

Options :

212807129633. 1

212807129634. 2

212807129635. 3

212807129636. 4

Question Number : 930 Question Id : 21280732410 Question Type : MCQ Option Shuffling : No Is Question Mandatory : No Calculator : None Response Time : N.A Think Time : N.A Minimum Instruction Time : 0

Correct Marks : 5 Wrong Marks : 1

Question Key Details :

Key	Value
Comprehension	MCQ2

In a box containing 100 bulbs, 10 are defective. The probability that out of a sample of 5 bulbs none is defective, is :

(1) $\frac{1}{10}$

(2) $\left(\frac{1}{2}\right)^5$

(3) $\left(\frac{9}{10}\right)^5$

(4) $\frac{9}{10}$

Options :

212807129637. 1

212807129638. 2

212807129639. 3

212807129640. 4

Question Number : 930 Question Id : 21280732410 Question Type : MCQ Option Shuffling : No Is Question Mandatory : No Calculator : None
Response Time : N.A Think Time : N.A Minimum Instruction Time : 0

Correct Marks : 5 Wrong Marks : 1

Question Key Details :

Key	Value
Comprehension	MCQ2

एक बॉक्स में 100 बल्ब हैं जिसमें 10 त्रुटियुक्त हैं। 5 बल्ब के नमूने में से किसी भी बल्ब के त्रुटियुक्त न होने की प्रायिकता है :

(1) $\frac{1}{10}$

(2) $\left(\frac{1}{2}\right)^5$

(3) $\left(\frac{9}{10}\right)^5$

(4) $\frac{9}{10}$

Options :

212807129637. 1

212807129638. 2

212807129639. 3

212807129640. 4

Sub-Section Number :

2

Sub-Section Id :

2128072541

Question Shuffling Allowed :

No

Is Section Default? :

null

Question Number : 931 Question Id : 21280732411 Question Type : MCQ Option Shuffling : No Is Question Mandatory : No Calculator : None
Response Time : N.A Think Time : N.A Minimum Instruction Time : 0

Correct Marks : 5 Wrong Marks : 1

Question Key Details :

Key	Value
Comprehension	Comp1

The value of $\sin^{-1} \frac{12}{13} + \cos^{-1} \frac{4}{5} + \tan^{-1} \frac{63}{16}$ is :

(1) $\frac{\pi}{2}$

(2) π

(3) $\frac{\pi}{3}$

(4) $\frac{\pi}{4}$

Options :

212807129641. 1

212807129642. 2

212807129643. 3

212807129644. 4

Question Number : 931 Question Id : 21280732411 Question Type : MCQ Option Shuffling : No Is Question Mandatory : No Calculator : None
Response Time : N.A Think Time : N.A Minimum Instruction Time : 0

Correct Marks : 5 Wrong Marks : 1

Question Key Details :

Key	Value
Comprehension	Comp1

$\sin^{-1} \frac{12}{13} + \cos^{-1} \frac{4}{5} + \tan^{-1} \frac{63}{16}$ का मान है :

(1) $\frac{\pi}{2}$

(2) π

(3) $\frac{\pi}{3}$

(4) $\frac{\pi}{4}$

Options :

212807129641. 1

212807129642. 2

212807129643. 3

212807129644. 4

Question Number : 932 Question Id : 21280732412 Question Type : MCQ Option Shuffling : No Is Question Mandatory : No Calculator : None
Response Time : N.A Think Time : N.A Minimum Instruction Time : 0

Correct Marks : 5 Wrong Marks : 1

Question Key Details :

Key	Value
Comprehension	Comp1

If $I = \int_0^4 \frac{\sqrt{x}}{\sqrt{x} + \sqrt{4-x}} dx$, then $8I$ is :

- (1) 8
- (2) 6
- (3) 16
- (4) 4

Options :

- 212807129645. 1
- 212807129646. 2
- 212807129647. 3
- 212807129648. 4

Question Number : 932 Question Id : 21280732412 Question Type : MCQ Option Shuffling : No Is Question Mandatory : No Calculator : None Response Time : N.A Think Time : N.A Minimum Instruction Time : 0

Correct Marks : 5 Wrong Marks : 1

Question Key Details :

Key	Value
Comprehension	Comp1

यदि $I = \int_0^4 \frac{\sqrt{x}}{\sqrt{x} + \sqrt{4-x}} dx$, तब $8I$ है :

- (1) 8
- (2) 6
- (3) 16
- (4) 4

Options :

- 212807129645. 1
- 212807129646. 2
- 212807129647. 3
- 212807129648. 4

Question Number : 933 Question Id : 21280732413 Question Type : MCQ Option Shuffling : No Is Question Mandatory : No Calculator : None Response Time : N.A Think Time : N.A Minimum Instruction Time : 0

Correct Marks : 5 Wrong Marks : 1

Question Key Details :

Key	Value
Comprehension	Comp1

The area of the region $\{(x, y) : x^2 + y^2 \leq 2ax, y^2 \geq ax, x \geq 0, y \geq 0\}$ $a > 0$, is :

(1) $\left(\frac{\pi}{4} - \frac{2}{3}\right) a^2$ sq. units

(2) $\left(\frac{\pi}{4} + \frac{2}{3}\right) a^2$ sq. units

(3) $\left(\frac{\pi}{3} + \frac{4}{3}\right) a^2$ sq. units

(4) $\left(\frac{\pi}{3} - \frac{4}{3}\right) a^2$ sq. units

Options :

212807129649. 1

212807129650. 2

212807129651. 3

212807129652. 4

Question Number : 933 Question Id : 21280732413 Question Type : MCQ Option Shuffling : No Is Question Mandatory : No Calculator : None Response Time : N.A Think Time : N.A Minimum Instruction Time : 0

Correct Marks : 5 Wrong Marks : 1

Question Key Details :

Key	Value
Comprehension	Comp1

$\{(x, y) : x^2 + y^2 \leq 2ax, y^2 \geq ax, x \geq 0, y \geq 0\}$ $a > 0$, क्षेत्र का क्षेत्रफल है :

(1) $\left(\frac{\pi}{4} - \frac{2}{3}\right) a^2$ वर्ग इकाई

(2) $\left(\frac{\pi}{4} + \frac{2}{3}\right) a^2$ वर्ग इकाई

(3) $\left(\frac{\pi}{3} + \frac{4}{3}\right) a^2$ वर्ग इकाई

(4) $\left(\frac{\pi}{3} - \frac{4}{3}\right) a^2$ वर्ग इकाई

Options :

212807129649. 1

212807129650. 2

212807129651. 3

212807129652. 4

Question Number : 934 Question Id : 21280732414 Question Type : MCQ Option Shuffling : No Is Question Mandatory : No Calculator : None Response Time : N.A Think Time : N.A Minimum Instruction Time : 0

Correct Marks : 5 Wrong Marks : 1

Question Key Details :

Key	Value
Comprehension	Comp1

The coordinates of the foot of the perpendicular drawn from origin to the plane $2x - 3y + 4z - 6 = 0$ is :

(1) $\left(-\frac{12}{29}, \frac{18}{29}, \frac{24}{29}\right)$

(2) $\left(-\frac{12}{29}, -\frac{18}{29}, -\frac{24}{29}\right)$

(3) $\left(\frac{12}{29}, \frac{18}{29}, \frac{24}{29}\right)$

(4) $\left(\frac{12}{29}, -\frac{18}{29}, \frac{24}{29}\right)$

Options :

212807129653. 1
212807129654. 2
212807129655. 3
212807129656. 4

Question Number : 934 Question Id : 21280732414 Question Type : MCQ Option Shuffling : No Is Question Mandatory : No Calculator : None
Response Time : N.A Think Time : N.A Minimum Instruction Time : 0

Correct Marks : 5 Wrong Marks : 1

Question Key Details :

Key	Value
Comprehension	Compl

मूलबिन्दु से समतल $2x - 3y + 4z - 6 = 0$ पर खींचे गये लम्ब के पाद के निर्देशांक हैं :

(1) $\left(-\frac{12}{29}, \frac{18}{29}, \frac{24}{29}\right)$

(2) $\left(-\frac{12}{29}, -\frac{18}{29}, -\frac{24}{29}\right)$

(3) $\left(\frac{12}{29}, \frac{18}{29}, \frac{24}{29}\right)$

(4) $\left(\frac{12}{29}, -\frac{18}{29}, \frac{24}{29}\right)$

Options :

212807129653. 1
212807129654. 2
212807129655. 3
212807129656. 4

Question Number : 935 Question Id : 21280732415 Question Type : MCQ Option Shuffling : No Is Question Mandatory : No Calculator : None
Response Time : N.A Think Time : N.A Minimum Instruction Time : 0

Correct Marks : 5 Wrong Marks : 1

Question Key Details :

Key	Value
Comprehension	Compl

The mean of the Binomial distribution $B\left(4, \frac{1}{3}\right)$ is :

(1) $\frac{4}{3}$

(2) $\frac{2}{3}$

(3) $\frac{8}{3}$

(4) $\frac{1}{3}$

Options :

212807129657. 1

212807129658. 2

212807129659. 3

212807129660. 4

Question Number : 935 Question Id : 21280732415 Question Type : MCQ Option Shuffling : No Is Question Mandatory : No Calculator : None Response Time : N.A Think Time : N.A Minimum Instruction Time : 0

Correct Marks : 5 Wrong Marks : 1

Question Key Details :

Key	Value
Comprehension	Compl

द्विपद बंटन $B\left(4, \frac{1}{3}\right)$ का माध्य है :

(1) $\frac{4}{3}$

(2) $\frac{2}{3}$

(3) $\frac{8}{3}$

(4) $\frac{1}{3}$

Options :

212807129657. 1

212807129658. 2

212807129659. 3

212807129660. 4

Applied Mathematics

Section Id :	212807882
Section Number :	3
Section type :	Online
Mandatory or Optional :	Optional
Number of Questions :	35
Number of Questions to be attempted :	25
Section Marks :	125
Enable Mark as Answered Mark for Review and Clear Response :	Yes

Maximum Instruction Time : 0
Sub-Section Number : 1
Sub-Section Id : 2128072542
Question Shuffling Allowed : Yes
Is Section Default? : null

Question Number : 936 Question Id : 21280732416 Question Type : MCQ Option Shuffling : No Is Question Mandatory : No Calculator : None
Response Time : N.A Think Time : N.A Minimum Instruction Time : 0

Correct Marks : 5 Wrong Marks : 1

Question Key Details :

Key	Value
Comprehension	MCQ3

If $\frac{x+y}{x-y} + \frac{x-y}{x+y} = \frac{10}{3}$, then $\frac{x}{y} =$

- (1) ± 2
(2) ± 1
(3) ± 4
(4) Not possible to find out

Options :

212807129661. 1
212807129662. 2
212807129663. 3
212807129664. 4

Question Number : 936 Question Id : 21280732416 Question Type : MCQ Option Shuffling : No Is Question Mandatory : No Calculator : None
Response Time : N.A Think Time : N.A Minimum Instruction Time : 0

Correct Marks : 5 Wrong Marks : 1

Question Key Details :

Key	Value
Comprehension	MCQ3

यदि $\frac{x+y}{x-y} + \frac{x-y}{x+y} = \frac{10}{3}$, तब $\frac{x}{y} =$

- (1) ± 2
(2) ± 1
(3) ± 4
(4) ज्ञात करना संभव नहीं

Options :

212807129661. 1
212807129662. 2
212807129663. 3
212807129664. 4

Question Number : 937 Question Id : 21280732417 Question Type : MCQ Option Shuffling : No Is Question Mandatory : No Calculator : None
Response Time : N.A Think Time : N.A Minimum Instruction Time : 0

Correct Marks : 5 Wrong Marks : 1

Question Key Details :

Key	Value
Comprehension	MCQ3

(6 : 30 + 19 : 50), in 24 hours clock is :

- (1) 2 : 20
- (2) 1 : 80
- (3) 14 : 20
- (4) 13 : 80

Options :

- 212807129665. 1
- 212807129666. 2
- 212807129667. 3
- 212807129668. 4

Question Number : 937 Question Id : 21280732417 Question Type : MCQ Option Shuffling : No Is Question Mandatory : No Calculator : None Response Time : N.A Think Time : N.A Minimum Instruction Time : 0

Correct Marks : 5 Wrong Marks : 1

Question Key Details :

Key	Value
Comprehension	MCQ3

24 घंटों में (6 : 30 + 19 : 50) है :

- (1) 2 : 20
- (2) 1 : 80
- (3) 14 : 20
- (4) 13 : 80

Options :

- 212807129665. 1
- 212807129666. 2
- 212807129667. 3
- 212807129668. 4

Question Number : 938 Question Id : 21280732418 Question Type : MCQ Option Shuffling : No Is Question Mandatory : No Calculator : None Response Time : N.A Think Time : N.A Minimum Instruction Time : 0

Correct Marks : 5 Wrong Marks : 1

Question Key Details :

Key	Value
Comprehension	MCQ3

A shopkeeper purchases 40 kg of rice at the rate of ₹ 35 per kg and 50 kg of rice at the rate of ₹ 40 per kg. If he sells the mixture to make a profit of 20%, the corresponding selling price for this transaction is :

- (1) ₹ 45.33/kg
- (2) ₹ 47.67/kg
- (3) ₹ 35.39/kg
- (4) ₹ 37.30/kg

Options :

- 212807129669. 1
- 212807129670. 2
- 212807129671. 3
- 212807129672. 4

Question Number : 938 Question Id : 21280732418 Question Type : MCQ Option Shuffling : No Is Question Mandatory : No Calculator : None Response Time : N.A Think Time : N.A Minimum Instruction Time : 0

Correct Marks : 5 Wrong Marks : 1

Question Key Details :

Key	Value
Comprehension	MCQ3

एक दुकानदार 40 किग्रा. चावल ₹ 35 प्रति किलो की दर से और 50 किग्रा. चावल ₹ 40 प्रति किग्रा. की दर से खरीदता है। यदि वह इस मिश्रण को 20% लाभ पर बेचता है तो इस सौदे का संगत विक्रय मूल्य है :

- (1) ₹ 45.33/किग्रा.
- (2) ₹ 47.67/किग्रा.
- (3) ₹ 35.39/किग्रा.
- (4) ₹ 37.30/किग्रा.

Options :

212807129669. 1
 212807129670. 2
 212807129671. 3
 212807129672. 4

Question Number : 939 Question Id : 21280732419 Question Type : MCQ Option Shuffling : No Is Question Mandatory : No Calculator : None
 Response Time : N.A Think Time : N.A Minimum Instruction Time : 0

Correct Marks : 5 Wrong Marks : 1

Question Key Details :

Key	Value
Comprehension	MCQ3

A boat goes upstream at $\frac{b}{2}$ km/hr and downstream at $\frac{a}{2}$ km/hr. The speed of boat in still water in km/hr is :

- (1) $\left(\frac{b-a}{2}\right)$ km/hr
- (2) $\left(\frac{b-a}{4}\right)$ km/hr
- (3) $\left(\frac{a-b}{4}\right)$ km/hr
- (4) $\left(\frac{a+b}{4}\right)$ km/hr

Options :

212807129673. 1
 212807129674. 2
 212807129675. 3
 212807129676. 4

Question Number : 939 Question Id : 21280732419 Question Type : MCQ Option Shuffling : No Is Question Mandatory : No Calculator : None
 Response Time : N.A Think Time : N.A Minimum Instruction Time : 0

Correct Marks : 5 Wrong Marks : 1

Question Key Details :

Key	Value
Comprehension	MCQ3

एक नाव ऊर्ध्व प्रवाह में $\frac{b}{2}$ किमी./घं. और अनुप्रवाह में $\frac{a}{2}$ किमी./घं. जाती है। शान्त जल में नाव की चाल किमी./घं. है :

(1) $\left(\frac{b-a}{2}\right)$ किमी./घं.

(2) $\left(\frac{b-a}{4}\right)$ किमी./घं.

(3) $\left(\frac{a-b}{4}\right)$ किमी./घं.

(4) $\left(\frac{a+b}{4}\right)$ किमी./घं.

Options :

212807129673. 1

212807129674. 2

212807129675. 3

212807129676. 4

Question Number : 940 Question Id : 21280732420 Question Type : MCQ Option Shuffling : No Is Question Mandatory : No Calculator : None Response Time : N.A Think Time : N.A Minimum Instruction Time : 0

Correct Marks : 5 Wrong Marks : 1

Question Key Details :

Key	Value
Comprehension	MCQ3

Three pipes A, B and C can fill an empty tank together in 8 hours. After working at it together for 2 hours B is closed and A and C can fill the remaining part in 9 hours. Pipe B can fill the empty tank in :

(1) 12 hours

(2) 16 hours

(3) 20 hours

(4) 24 hours

Options :

212807129677. 1

212807129678. 2

212807129679. 3

212807129680. 4

Question Number : 940 Question Id : 21280732420 Question Type : MCQ Option Shuffling : No Is Question Mandatory : No Calculator : None Response Time : N.A Think Time : N.A Minimum Instruction Time : 0

Correct Marks : 5 Wrong Marks : 1

Question Key Details :

Key	Value
Comprehension	MCQ3

तीन पाइप A, B और C एक खाली टैंक को एक साथ 8 घण्टे में भर सकते हैं। एक साथ 2 घण्टे कार्य करने के बाद B को बन्द कर दिया गया और A एवं C शेष भाग को 9 घण्टे में भर सकते हैं। पाइप B खाली टैंक भर सकता है :

- (1) 12 घण्टे में
- (2) 16 घण्टे में
- (3) 20 घण्टे में
- (4) 24 घण्टे में

Options :

212807129677. 1
212807129678. 2
212807129679. 3
212807129680. 4

Question Number : 941 Question Id : 21280732421 Question Type : MCQ Option Shuffling : No Is Question Mandatory : No Calculator : None
Response Time : N.A Think Time : N.A Minimum Instruction Time : 0

Correct Marks : 5 Wrong Marks : 1

Question Key Details :

Key	Value
Comprehension	MCQ3

If $\frac{2-x}{4} - \frac{4+x}{6} \geq 10$ then :

- (1) $x \geq -\frac{122}{5}$
- (2) $x \geq -\frac{5}{122}$
- (3) $x \leq -\frac{122}{5}$
- (4) $x \leq -\frac{5}{122}$

Options :

212807129681. 1
212807129682. 2
212807129683. 3
212807129684. 4

Question Number : 941 Question Id : 21280732421 Question Type : MCQ Option Shuffling : No Is Question Mandatory : No Calculator : None
Response Time : N.A Think Time : N.A Minimum Instruction Time : 0

Correct Marks : 5 Wrong Marks : 1

Question Key Details :

Key	Value
Comprehension	MCQ3

यदि $\frac{2-x}{4} - \frac{4+x}{6} \geq 10$ तब :

(1) $x \geq -\frac{122}{5}$

(2) $x \geq -\frac{5}{122}$

(3) $x \leq -\frac{122}{5}$

(4) $x \leq -\frac{5}{122}$

Options :

- 212807129681. 1
- 212807129682. 2
- 212807129683. 3
- 212807129684. 4

Question Number : 942 Question Id : 21280732422 Question Type : MCQ Option Shuffling : No Is Question Mandatory : No Calculator : None Response Time : N.A Think Time : N.A Minimum Instruction Time : 0

Correct Marks : 5 Wrong Marks : 1

Question Key Details :

Key	Value
Comprehension	MCQ3

If A and B are symmetric matrices, then which statements are correct ?

- (A) $(A - B)' = B' - A'$
- (B) $(AB + BA)$ is symmetric matrix
- (C) $(AB)' = B'A'$
- (D) $A'B' = B'A'$
- (E) $(AB - BA)$ is skew symmetric matrix

Choose the correct answer from the options given below :

- (1) (A), (C) and (E) Only
- (2) (B), (D) and (E) Only
- (3) (B), (C) and (E) Only
- (4) (A), (B) and (E) Only

Options :

- 212807129685. 1
- 212807129686. 2
- 212807129687. 3
- 212807129688. 4

Question Number : 942 Question Id : 21280732422 Question Type : MCQ Option Shuffling : No Is Question Mandatory : No Calculator : None Response Time : N.A Think Time : N.A Minimum Instruction Time : 0

Correct Marks : 5 Wrong Marks : 1

Question Key Details :

Key	Value
Comprehension	MCQ3

यदि A और B सममित आव्यूह हैं, तब कौनसे कथन सही हैं ?

- (A) $(A - B)' = B' - A'$
(B) $(AB + BA)$ सममित आव्यूह है
(C) $(AB)' = B'A'$
(D) $A'B' = B'A'$
(E) $(AB - BA)$ विषम सममित आव्यूह है

नीचे दिए गए विकल्पों में से सही उत्तर का चयन कीजिए :

- (1) केवल (A), (C) और (E)
(2) केवल (B), (D) और (E)
(3) केवल (B), (C) और (E)
(4) केवल (A), (B) और (E)

Options :

212807129685. 1
212807129686. 2
212807129687. 3
212807129688. 4

Question Number : 943 Question Id : 21280732423 Question Type : MCQ Option Shuffling : No Is Question Mandatory : No Calculator : None
Response Time : N.A Think Time : N.A Minimum Instruction Time : 0

Correct Marks : 5 Wrong Marks : 1

Question Key Details :

Key	Value
Comprehension	MCQ3

Match List - I with List - II.

List - I

List - II

(A) Null matrix

(I)
$$\begin{bmatrix} 5 & 0 & 0 \\ 0 & 5 & 0 \\ 0 & 0 & 5 \end{bmatrix}$$

(B) Scalar matrix

(II)
$$\begin{bmatrix} 0 & -5 & -3 \\ 5 & 0 & -2 \\ 3 & 2 & 0 \end{bmatrix}$$

(C) Skew-symmetric matrix

(III)
$$\begin{bmatrix} 1 & 7 & 2 \\ 7 & 5 & 3 \\ 2 & 3 & 6 \end{bmatrix}$$

(D) Symmetric matrix

(IV) both symmetric and skew-symmetric

Choose the correct answer from the options given below :

- (1) (A)-(IV), (B)-(I), (C)-(II), (D)-(III)
(2) (A)-(I), (B)-(II), (C)-(III), (D)-(IV)
(3) (A)-(II), (B)-(III), (C)-(I), (D)-(IV)
(4) (A)-(III), (B)-(II), (C)-(I), (D)-(IV)

Options :

212807129689. 1
 212807129690. 2
 212807129691. 3
 212807129692. 4

Question Number : 943 Question Id : 21280732423 Question Type : MCQ Option Shuffling : No Is Question Mandatory : No Calculator : None
 Response Time : N.A Think Time : N.A Minimum Instruction Time : 0

Correct Marks : 5 Wrong Marks : 1

Question Key Details :

Key	Value
Comprehension	MCQ3

सूची-I से सूची-II का मिलान कीजिए :

सूची-I**सूची-II**

(A) शून्य आव्यूह

(I)

$$\begin{bmatrix} 5 & 0 & 0 \\ 0 & 5 & 0 \\ 0 & 0 & 5 \end{bmatrix}$$

(B) आदिश आव्यूह

(II)

$$\begin{bmatrix} 0 & -5 & -3 \\ 5 & 0 & -2 \\ 3 & 2 & 0 \end{bmatrix}$$

(C) विषम-सममित आव्यूह

(III)

$$\begin{bmatrix} 1 & 7 & 2 \\ 7 & 5 & 3 \\ 2 & 3 & 6 \end{bmatrix}$$

(D) सममित आव्यूह

(IV) सममित और विषम दोनों

नीचे दिए गए विकल्पों में से सही उत्तर का चयन कीजिए :

- (1) (A)-(IV), (B)-(I), (C)-(II), (D)-(III)
 (2) (A)-(I), (B)-(II), (C)-(III), (D)-(IV)
 (3) (A)-(II), (B)-(III), (C)-(I), (D)-(IV)
 (4) (A)-(III), (B)-(II), (C)-(I), (D)-(IV)

Options :

212807129689. 1
 212807129690. 2
 212807129691. 3
 212807129692. 4

Question Number : 944 Question Id : 21280732424 Question Type : MCQ Option Shuffling : No Is Question Mandatory : No Calculator : None
 Response Time : N.A Think Time : N.A Minimum Instruction Time : 0

Correct Marks : 5 Wrong Marks : 1

Question Key Details :

Key	Value
Comprehension	MCQ3

A doll making small-scale unit calculates the variable cost of making x number of dolls per day as three times the square of x . The fixed cost of packaging x dolls is ₹ 2800. The marginal cost of producing 120 dolls :

- (1) ₹ 72
- (2) ₹ 720
- (3) ₹ 2872
- (4) ₹ 3520

Options :

- 212807129693. 1
- 212807129694. 2
- 212807129695. 3
- 212807129696. 4

Question Number : 944 Question Id : 21280732424 Question Type : MCQ Option Shuffling : No Is Question Mandatory : No Calculator : None Response Time : N.A Think Time : N.A Minimum Instruction Time : 0

Correct Marks : 5 Wrong Marks : 1

Question Key Details :

Key	Value
Comprehension	MCQ3

एक गुड़िया बनाने वाली लघु उद्योग की गणना है कि प्रतिदिन x संख्या की गुड़िया बनाने का चर मूल्य संख्या x के वर्ग का तिगुना है। यदि x गुड़िया को पैकिंग का कुल स्थिर कीमत ₹ 2800 है तो 120 गुड़ियों के उत्पादन की सीमांत लागत है :

- (1) ₹ 72
- (2) ₹ 720
- (3) ₹ 2872
- (4) ₹ 3520

Options :

- 212807129693. 1
- 212807129694. 2
- 212807129695. 3
- 212807129696. 4

Question Number : 945 Question Id : 21280732425 Question Type : MCQ Option Shuffling : No Is Question Mandatory : No Calculator : None Response Time : N.A Think Time : N.A Minimum Instruction Time : 0

Correct Marks : 5 Wrong Marks : 1

Question Key Details :

Key	Value
Comprehension	MCQ3

The demand function for a certain product is such that $P(x) = 3x^2 - x + 200$, where x is the number of units of the product demanded and $P(x)$ is the price per unit.

Marginal revenue when 10 units are sold is :

- (1) 59
- (2) 780
- (3) 1080
- (4) 4900

Options :

- 212807129697. 1
- 212807129698. 2
- 212807129699. 3
- 212807129700. 4

Question Number : 945 Question Id : 21280732425 Question Type : MCQ Option Shuffling : No Is Question Mandatory : No Calculator : None
Response Time : N.A Think Time : N.A Minimum Instruction Time : 0

Correct Marks : 5 Wrong Marks : 1

Question Key Details :

Key	Value
Comprehension	MCQ3

एक निश्चित उत्पाद के लिए माँग फलन इस प्रकार है, $P(x) = 3x^2 - x + 200$ जहाँ x उत्पाद के माँग की इकाइयों की संख्या और $P(x)$ मूल्य प्रति इकाई है।

जब 10 इकाइयाँ बेची जाती हैं तो सीमान्त राजस्व है :

- (1) 59
- (2) 780
- (3) 1080
- (4) 4900

Options :

212807129697. 1

212807129698. 2

212807129699. 3

212807129700. 4

Question Number : 946 Question Id : 21280732426 Question Type : MCQ Option Shuffling : No Is Question Mandatory : No Calculator : None
Response Time : N.A Think Time : N.A Minimum Instruction Time : 0

Correct Marks : 5 Wrong Marks : 1

Question Key Details :

Key	Value
Comprehension	MCQ3

Maximum slope of the curve $y = -2x^3 + 6x^2 + 5x - 20$ is :

- (1) 9
- (2) 10
- (3) 11
- (4) 12

Options :

212807129701. 1

212807129702. 2

212807129703. 3

212807129704. 4

Question Number : 946 Question Id : 21280732426 Question Type : MCQ Option Shuffling : No Is Question Mandatory : No Calculator : None
Response Time : N.A Think Time : N.A Minimum Instruction Time : 0

Correct Marks : 5 Wrong Marks : 1

Question Key Details :

Key	Value
Comprehension	MCQ3

वक्र $y = -2x^3 + 6x^2 + 5x - 20$ की अधिकतम प्रवणता है :

- (1) 9
- (2) 10
- (3) 11
- (4) 12

Options :

212807129701. 1
212807129702. 2
212807129703. 3
212807129704. 4

Question Number : 947 Question Id : 21280732427 Question Type : MCQ Option Shuffling : No Is Question Mandatory : No Calculator : None
Response Time : N.A Think Time : N.A Minimum Instruction Time : 0

Correct Marks : 5 Wrong Marks : 1

Question Key Details :

Key	Value
Comprehension	MCQ3

An open box with square base is to be made out of a given quantity of cardboard of area p^2 sq. units. The maximum volume of the box is :

(1) $\frac{p^3}{6}$ cubic units

(2) $\frac{p}{6\sqrt{3}}$ cubic units

(3) $\frac{p^2}{6\sqrt{3}}$ cubic units

(4) $\frac{p^3}{6\sqrt{3}}$ cubic units

Options :

212807129705. 1
212807129706. 2
212807129707. 3
212807129708. 4

Question Number : 947 Question Id : 21280732427 Question Type : MCQ Option Shuffling : No Is Question Mandatory : No Calculator : None
Response Time : N.A Think Time : N.A Minimum Instruction Time : 0

Correct Marks : 5 Wrong Marks : 1

Question Key Details :

Key	Value
Comprehension	MCQ3

वर्गाकार आधार वाले खुले बक्से को p^2 वर्ग इकाई वाले गते को काटकर बनाया जाता है। बक्से का अधिकतम आयतन है :

(1) $\frac{p^3}{6}$ घन इकाई

(2) $\frac{p}{6\sqrt{3}}$ घन इकाई

(3) $\frac{p^2}{6\sqrt{3}}$ घन इकाई

(4) $\frac{p^3}{6\sqrt{3}}$ घन इकाई

Options :

212807129705. 1
212807129706. 2
212807129707. 3
212807129708. 4

Question Number : 948 Question Id : 21280732428 Question Type : MCQ Option Shuffling : No Is Question Mandatory : No Calculator : None
Response Time : N.A Think Time : N.A Minimum Instruction Time : 0

Correct Marks : 5 Wrong Marks : 1

Question Key Details :

Key	Value
Comprehension	MCQ3

Which of the following can be the probability distribution of a random variable ?

(1)

X	1	2	3
P(X)	-0.5	0.5	0.1

(2)

X	1	2	3	4	5
P(X)	0.1	0.4	0.05	-0.2	0.2

(3)

X	1	2	3	5
P(X)	0.2	0.3	0.2	0.2

(4)

X	0	1	2
P(X)	0.4	0.2	0.4

Options :

212807129709. 1
212807129710. 2
212807129711. 3
212807129712. 4

Question Number : 948 Question Id : 21280732428 Question Type : MCQ Option Shuffling : No Is Question Mandatory : No Calculator : None
Response Time : N.A Think Time : N.A Minimum Instruction Time : 0

Correct Marks : 5 Wrong Marks : 1

Question Key Details :

Key	Value
Comprehension	MCQ3

निम्नलिखित में से कौनसी एक यादृच्छिक चर का प्रायिकता बंटन हो सकता है?

(1)

X	1	2	3
P(X)	-0.5	0.5	0.1

(2)

X	1	2	3	4	5
P(X)	0.1	0.4	0.05	-0.2	0.2

(3)

X	1	2	3	5
P(X)	0.2	0.3	0.2	0.2

(4)

X	0	1	2
P(X)	0.4	0.2	0.4

Options :

212807129709. 1
 212807129710. 2
 212807129711. 3
 212807129712. 4

Question Number : 949 Question Id : 21280732429 Question Type : MCQ Option Shuffling : No Is Question Mandatory : No Calculator : None
 Response Time : N.A Think Time : N.A Minimum Instruction Time : 0

Correct Marks : 5 Wrong Marks : 1

Question Key Details :

Key	Value
Comprehension	MCQ3

The probability distribution of a discrete random variable X is given below :

X	2	3	4	5
P(X)	5/K	7/K	9/K	11/K

, then the value of K is :

- (1) 8
 (2) 16
 (3) 32
 (4) 48

Options :

212807129713. 1
 212807129714. 2
 212807129715. 3
 212807129716. 4

Question Number : 949 Question Id : 21280732429 Question Type : MCQ Option Shuffling : No Is Question Mandatory : No Calculator : None
 Response Time : N.A Think Time : N.A Minimum Instruction Time : 0

Correct Marks : 5 Wrong Marks : 1

Question Key Details :

Key	Value
Comprehension	MCQ3

किसी असंतत यादृच्छिक चर X का प्रायिकता बंटन नीचे दिया गया है :

X	2	3	4	5
$P(X)$	$5/K$	$7/K$	$9/K$	$11/K$

, तब K का मान है :

- (1) 8
(2) 16
(3) 32
(4) 48

Options :

212807129713. 1
212807129714. 2
212807129715. 3
212807129716. 4

Question Number : 950 Question Id : 21280732430 Question Type : MCQ Option Shuffling : No Is Question Mandatory : No Calculator : None
Response Time : N.A Think Time : N.A Minimum Instruction Time : 0

Correct Marks : 5 Wrong Marks : 1

Question Key Details :

Key	Value
Comprehension	MCQ3

The mean and variance of a Binomial distribution are 4 and $\frac{4}{3}$ respectively, then the value of $P(X \geq 1)$ is :

- (1) $\frac{80}{81}$
(2) $\frac{63}{64}$
(3) $\frac{728}{729}$
(4) $\frac{665}{729}$

Options :

212807129717. 1
212807129718. 2
212807129719. 3
212807129720. 4

Question Number : 950 Question Id : 21280732430 Question Type : MCQ Option Shuffling : No Is Question Mandatory : No Calculator : None
Response Time : N.A Think Time : N.A Minimum Instruction Time : 0

Correct Marks : 5 Wrong Marks : 1

Question Key Details :

Key	Value
Comprehension	MCQ3

किसी द्विपद बंटन के माध्य और प्रसरण क्रमशः 4 और $\frac{4}{3}$ हैं, तो $P(X \geq 1)$ का मान है :

(1) $\frac{80}{81}$

(2) $\frac{63}{64}$

(3) $\frac{728}{729}$

(4) $\frac{665}{729}$

Options :

212807129717. 1

212807129718. 2

212807129719. 3

212807129720. 4

Question Number : 951 Question Id : 21280732431 Question Type : MCQ Option Shuffling : No Is Question Mandatory : No Calculator : None Response Time : N.A Think Time : N.A Minimum Instruction Time : 0

Correct Marks : 5 Wrong Marks : 1

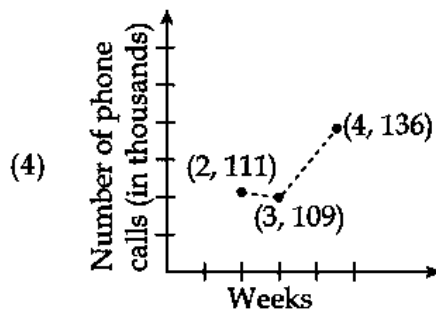
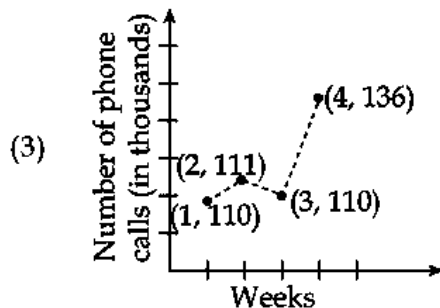
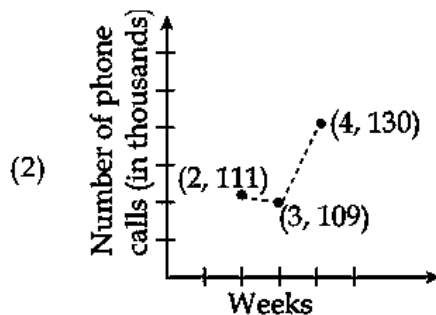
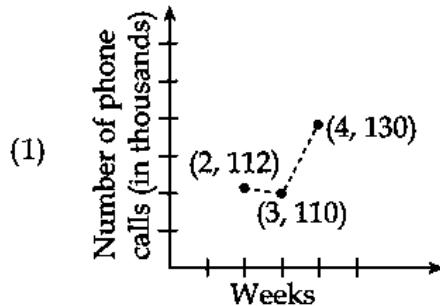
Question Key Details :

Key	Value
Comprehension	MCQ3

The number of phone calls (in thousands) are made by a telephone company for five weeks as given below :

Week	1	2	3	4	5
No. of telephone calls	110	130	93	104	211

Taking a period of moving averages as 3 weeks, the graph of moving averages can be depicted directly as :



Options :

- 212807129721. 1
- 212807129722. 2
- 212807129723. 3
- 212807129724. 4

Question Number : 951 Question Id : 21280732431 Question Type : MCQ Option Shuffling : No Is Question Mandatory : No Calculator : None Response Time : N.A Think Time : N.A Minimum Instruction Time : 0

Correct Marks : 5 Wrong Marks : 1

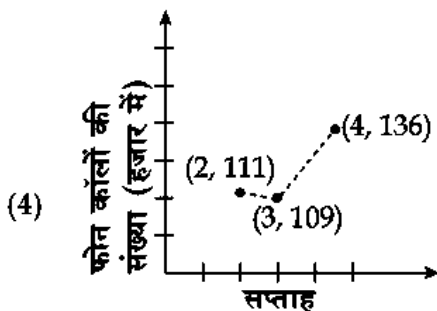
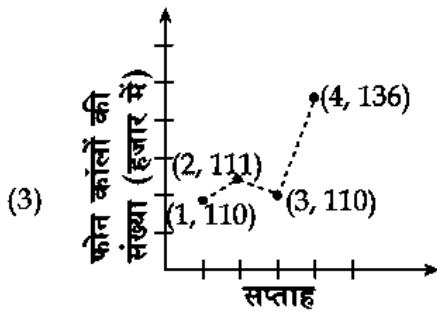
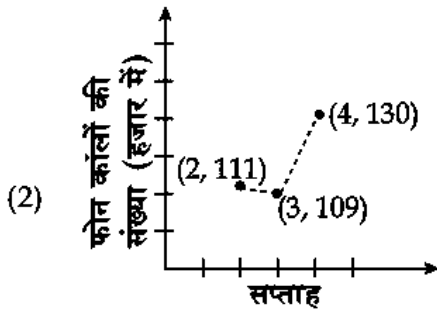
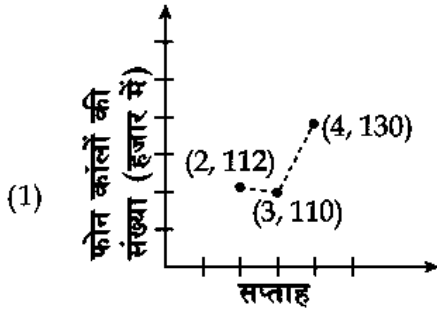
Question Key Details :

Key	Value
Comprehension	MCQ3

किसी टेलीफोन कम्पनी द्वारा पाँच सप्ताह में की गई फोन कॉलों की संख्या (हजार में) निम्न प्रकार दी गई है।

Week	1	2	3	4	5
No. of telephone calls	110	130	93	104	211

चल औसत की अवधि 3 सप्ताह लेने पर चल औसत को ग्राफ द्वारा प्रत्यक्षतः दर्शाया जा सकता है :



Options :

212807129721. 1

212807129722. 2

212807129723. 3

212807129724. 4

Question Number : 952 Question Id : 21280732432 Question Type : MCQ Option Shuffling : No Is Question Mandatory : No Calculator : None Response Time : N.A Think Time : N.A Minimum Instruction Time : 0

Correct Marks : 5 Wrong Marks : 1

Question Key Details :

Key	Value
Comprehension	MCQ3

Which index number is used to compare cost of living at two different cities ?

- (1) Value index
- (2) Volume index
- (3) Weighted index
- (4) Consumer price index

Options :

212807129725. 1
212807129726. 2
212807129727. 3
212807129728. 4

Question Number : 952 Question Id : 21280732432 Question Type : MCQ Option Shuffling : No Is Question Mandatory : No Calculator : None
Response Time : N.A Think Time : N.A Minimum Instruction Time : 0

Correct Marks : 5 Wrong Marks : 1

Question Key Details :

Key	Value
Comprehension	MCQ3

दो विभिन्न शहरों में रहने की तुलना के लिए कौनसा जीवनयापन मूल्य सूचकांक प्रयुक्त होता है ?

- (1) मूल्य सूचकांक
- (2) प्रबलता सूचकांक
- (3) भारित सूचकांक
- (4) उपभोक्ता मूल्य सूचकांक

Options :

212807129725. 1
212807129726. 2
212807129727. 3
212807129728. 4

Question Number : 953 Question Id : 21280732433 Question Type : MCQ Option Shuffling : No Is Question Mandatory : No Calculator : None
Response Time : N.A Think Time : N.A Minimum Instruction Time : 0

Correct Marks : 5 Wrong Marks : 1

Question Key Details :

Key	Value
Comprehension	MCQ3

The price relation for year 2020 with reference to year 2010 is 117. Correct interpretation of the given information is :

- (1) Prices increased by 17% in year 2010
- (2) Prices increased by 17% in year 2020
- (3) Prices increased by 117% in year 2010
- (4) Prices increased by 117% in year 2020

Options :

212807129729. 1
212807129730. 2
212807129731. 3
212807129732. 4

Question Number : 953 Question Id : 21280732433 Question Type : MCQ Option Shuffling : No Is Question Mandatory : No Calculator : None
Response Time : N.A Think Time : N.A Minimum Instruction Time : 0

Correct Marks : 5 Wrong Marks : 1

Question Key Details :

Key	Value
Comprehension	MCQ3

आधार वर्ष 2010 के सम्बन्ध में वर्ष 2020 के लिए मूल्य सम्बन्ध 117 है। दी गई सूचना का सही प्रस्तुतीकरण है :

- (1) वर्ष 2010 में कीमतें 17% बढ़ गईं
- (2) वर्ष 2020 में कीमतें 17% बढ़ गईं
- (3) वर्ष 2010 में कीमतें 117% बढ़ गईं
- (4) वर्ष 2020 में कीमतें 117% बढ़ गईं

Options :

212807129729. 1
212807129730. 2
212807129731. 3
212807129732. 4

Question Number : 954 Question Id : 21280732434 Question Type : MCQ Option Shuffling : No Is Question Mandatory : No Calculator : None
Response Time : N.A Think Time : N.A Minimum Instruction Time : 0

Correct Marks : 5 Wrong Marks : 1

Question Key Details :

Key	Value
Comprehension	MCQ3

Match List - I with List - II.

List - I

List - II

- | | |
|---------------------|---------------------------|
| (A) t-distribution | (I) sample size ≥ 30 |
| (B) Sample mean | (II) \bar{X} |
| (C) Population mean | (III) degree of freedom |
| (D) Z-distribution | (IV) μ |

Choose the correct answer from the options given below :

- (1) (A)-(I), (B)-(II), (C)-(III), (D)-(IV)
- (2) (A)-(I), (B)-(II), (C)-(IV), (D)-(III)
- (3) (A)-(II), (B)-(IV), (C)-(III), (D)-(I)
- (4) (A)-(III), (B)-(II), (C)-(IV), (D)-(I)

Options :

212807129733. 1
212807129734. 2
212807129735. 3
212807129736. 4

Question Number : 954 Question Id : 21280732434 Question Type : MCQ Option Shuffling : No Is Question Mandatory : No Calculator : None
Response Time : N.A Think Time : N.A Minimum Instruction Time : 0

Correct Marks : 5 Wrong Marks : 1

Question Key Details :

Key	Value
Comprehension	MCQ3

सूची-I से सूची-II का मिलान कीजिए :

सूची-I	सूची-II
(A) t-बंटन	(I) प्रतिदर्श आमाप ≥ 30
(B) प्रतिदर्श माध्य	(II) \bar{X}
(C) समष्टि माध्य	(III) स्वातन्त्र्य कोटि
(D) Z-बंटन	(IV) μ

नीचे दिए गए विकल्पों में से सही उत्तर का चयन कीजिए :

- (1) (A)-(I), (B)-(II), (C)-(III), (D)-(IV)
- (2) (A)-(I), (B)-(II), (C)-(IV), (D)-(III)
- (3) (A)-(II), (B)-(IV), (C)-(III), (D)-(I)
- (4) (A)-(III), (B)-(II), (C)-(IV), (D)-(I)

Options :

212807129733. 1

212807129734. 2

212807129735. 3

212807129736. 4

Question Number : 955 Question Id : 21280732435 Question Type : MCQ Option Shuffling : No Is Question Mandatory : No Calculator : None
Response Time : N.A Think Time : N.A Minimum Instruction Time : 0

Correct Marks : 5 Wrong Marks : 1

Question Key Details :

Key	Value
Comprehension	MCQ3

The least value of positive integer m for which $361 = 1 \pmod{m}$ is Not True, is :

- (1) $m = 7$
- (2) $m = 10$
- (3) $m = 11$
- (4) $m = 8$

Options :

212807129737. 1

212807129738. 2

212807129739. 3

212807129740. 4

Question Number : 955 Question Id : 21280732435 Question Type : MCQ Option Shuffling : No Is Question Mandatory : No Calculator : None
Response Time : N.A Think Time : N.A Minimum Instruction Time : 0

Correct Marks : 5 Wrong Marks : 1

Question Key Details :

Key	Value
Comprehension	MCQ3

घनात्मक पूर्णांक m का वह न्यूनतम मान, यदि $361 = 1 \pmod{m}$ सही नहीं है _____ ।

- (1) $m = 7$
- (2) $m = 10$
- (3) $m = 11$
- (4) $m = 8$

Options :

212807129737. 1

212807129738. 2
212807129739. 3
212807129740. 4

Question Number : 956 Question Id : 21280732436 Question Type : MCQ Option Shuffling : No Is Question Mandatory : No Calculator : None
Response Time : N.A Think Time : N.A Minimum Instruction Time : 0

Correct Marks : 5 Wrong Marks : 1

Question Key Details :

Key	Value
Comprehension	MCQ3

The trend line for the sales (in lakhs) is given by $y_c = 84 + 12(x - 2017)$. The estimated sale for the year 2024 is :

- (1) ₹ 84 lakh
- (2) ₹ 96 lakh
- (3) ₹ 156 lakh
- (4) ₹ 168 lakh

Options :

212807129741. 1
212807129742. 2
212807129743. 3
212807129744. 4

Question Number : 956 Question Id : 21280732436 Question Type : MCQ Option Shuffling : No Is Question Mandatory : No Calculator : None
Response Time : N.A Think Time : N.A Minimum Instruction Time : 0

Correct Marks : 5 Wrong Marks : 1

Question Key Details :

Key	Value
Comprehension	MCQ3

बिक्री (लाखों में) के लिए उपनति रेखा $y_c = 84 + 12(x - 2017)$ दी गई है। वर्ष 2024 के लिए अनुमानित बिक्री है :

- (1) ₹ 84 लाख
- (2) ₹ 96 लाख
- (3) ₹ 156 लाख
- (4) ₹ 168 लाख

Options :

212807129741. 1
212807129742. 2
212807129743. 3
212807129744. 4

Question Number : 957 Question Id : 21280732437 Question Type : MCQ Option Shuffling : No Is Question Mandatory : No Calculator : None
Response Time : N.A Think Time : N.A Minimum Instruction Time : 0

Correct Marks : 5 Wrong Marks : 1

Question Key Details :

Key	Value
Comprehension	MCQ3

If the objective function for an LPP is $z = 3x - 4y$ and corner points for bounded feasible region are (5, 0) (6, 5) and (4, 10), then :

- (A) maximum value of z is 2
- (B) minimum value of z is 2
- (C) maximum value of z is at (5, 0)
- (D) no maximum value of z
- (E) maximum value of z is 15

Choose the correct answer from the options given below :

- (1) (B) and (C) Only
- (2) (A) and (B) Only
- (3) (C) and (D) Only
- (4) (C) and (E) Only

Options :

- 212807129745. 1
- 212807129746. 2
- 212807129747. 3
- 212807129748. 4

Question Number : 957 Question Id : 21280732437 Question Type : MCQ Option Shuffling : No Is Question Mandatory : No Calculator : None Response Time : N.A Think Time : N.A Minimum Instruction Time : 0

Correct Marks : 5 Wrong Marks : 1

Question Key Details :

Key	Value
Comprehension	MCQ3

किसी LPP के लिए उद्देश्य फलन $z = 3x - 4y$ है और परिवद्ध सुसंगत क्षेत्र के कोनीय बिन्दु (5, 0) (6, 5) और (4, 10) हैं तो :

- (A) z का अधिकतम मान 2 हैं
- (B) z का न्यूनतम मान 2 हैं
- (C) (5, 0) पर z का अधिकतम मान है
- (D) z का कोई अधिकतम मान नहीं है
- (E) z का अधिकतम मान 15 है

नीचे दिए गए विकल्पों में से सही उत्तर का चयन कीजिए :

- (1) केवल (B) और (C)
- (2) केवल (A) और (B)
- (3) केवल (C) और (D)
- (4) केवल (C) और (E)

Options :

- 212807129745. 1
- 212807129746. 2
- 212807129747. 3
- 212807129748. 4

Question Number : 958 Question Id : 21280732438 Question Type : MCQ Option Shuffling : No Is Question Mandatory : No Calculator : None Response Time : N.A Think Time : N.A Minimum Instruction Time : 0

Correct Marks : 5 Wrong Marks : 1

Question Key Details :

Key	Value
Comprehension	MCQ3

Subodh took a loan of ₹ 10,00,000 at 14% annual interest rate for 8 years. His equated monthly instalment under flat rate system is :

- (1) ₹ 20833.33
- (2) ₹ 22083.33
- (3) ₹ 17500
- (4) ₹ 23125

Options :

212807129749. 1
212807129750. 2
212807129751. 3
212807129752. 4

Question Number : 958 Question Id : 21280732438 Question Type : MCQ Option Shuffling : No Is Question Mandatory : No Calculator : None
Response Time : N.A Think Time : N.A Minimum Instruction Time : 0

Correct Marks : 5 Wrong Marks : 1

Question Key Details :

Key	Value
Comprehension	MCQ3

सुबोध ने ₹ 10,00,000 का ऋण 14% वार्षिक ब्याज दर से 8 वर्ष के लिए लिया। सपाट दर विधि से मासिक किश्त है :

- (1) ₹ 20833.33
- (2) ₹ 22083.33
- (3) ₹ 17500
- (4) ₹ 23125

Options :

212807129749. 1
212807129750. 2
212807129751. 3
212807129752. 4

Question Number : 959 Question Id : 21280732439 Question Type : MCQ Option Shuffling : No Is Question Mandatory : No Calculator : None
Response Time : N.A Think Time : N.A Minimum Instruction Time : 0

Correct Marks : 5 Wrong Marks : 1

Question Key Details :

Key	Value
Comprehension	MCQ3

At what rate of interest will the present value of a perpetuity of ₹ 1000, payable at the end of every quarter be ₹ 20000 :

- (1) 10% per annum
- (2) 20% per annum
- (3) 3% per quarter
- (4) 10% per quarter

Options :

212807129753. 1
212807129754. 2
212807129755. 3
212807129756. 4

Question Number : 959 Question Id : 21280732439 Question Type : MCQ Option Shuffling : No Is Question Mandatory : No Calculator : None
Response Time : N.A Think Time : N.A Minimum Instruction Time : 0

Correct Marks : 5 Wrong Marks : 1

Question Key Details :

Key	Value
Comprehension	MCQ3

किस ब्याज दर से ₹ 1000 मूल्य के शाश्वत, जो प्रत्येक तिमाही के अन्त में देय है, का वर्तमान मूल्य ₹ 20000 हो जाएगा ?

- (1) 10% प्रति वर्ष
- (2) 20% प्रति वर्ष
- (3) 3% प्रति तिमाही
- (4) 10% प्रति तिमाही

Options :

212807129753. 1

212807129754. 2

212807129755. 3

212807129756. 4

Question Number : 960 Question Id : 21280732440 Question Type : MCQ Option Shuffling : No Is Question Mandatory : No Calculator : None
Response Time : N.A Think Time : N.A Minimum Instruction Time : 0

Correct Marks : 5 Wrong Marks : 1

Question Key Details :

Key	Value
Comprehension	MCQ3

The rate of interest used to discount the bond's cash flow is known as :

- (1) yield to maturity
- (2) coupon rate
- (3) face value
- (4) coupon value

Options :

212807129757. 1

212807129758. 2

212807129759. 3

212807129760. 4

Question Number : 960 Question Id : 21280732440 Question Type : MCQ Option Shuffling : No Is Question Mandatory : No Calculator : None
Response Time : N.A Think Time : N.A Minimum Instruction Time : 0

Correct Marks : 5 Wrong Marks : 1

Question Key Details :

Key	Value
Comprehension	MCQ3

किसी बॉण्ड के नकद प्रवाह में छूट देने के लिए जिस ब्याज दर का प्रयोग होता है, कहलाता है :

- (1) परिपक्वता पर प्राप्ति
- (2) कूपन दर
- (3) अंकित मूल्य
- (4) कूपन मूल्य

Options :

212807129757. 1

212807129758. 2

212807129759. 3
212807129760. 4

Question Number : 961 Question Id : 21280732441 Question Type : MCQ Option Shuffling : No Is Question Mandatory : No Calculator : None
Response Time : N.A Think Time : N.A Minimum Instruction Time : 0
Correct Marks : 5 Wrong Marks : 1

Question Key Details :

Key	Value
Comprehension	MCQ3

Mr. Dileep Rao has set up a sinking fund so that he can accumulate ₹ 10,00,000 in 10 years for his children's higher education. How much amount should Dileep Rao deposit at the beginning of each year to accumulate this amount at the end of 10 years. If the interest rate is 12% compounded annually ? Given that $(1.12)^{11} = 3.477$ (Rounded off to the nearest paise)

- (1) ₹ 50000
- (2) ₹ 50900
- (3) ₹ 51211.10
- (4) ₹ 50912.18

Options :

212807129761. 1
212807129762. 2
212807129763. 3
212807129764. 4

Question Number : 961 Question Id : 21280732441 Question Type : MCQ Option Shuffling : No Is Question Mandatory : No Calculator : None
Response Time : N.A Think Time : N.A Minimum Instruction Time : 0
Correct Marks : 5 Wrong Marks : 1

Question Key Details :

Key	Value
Comprehension	MCQ3

मि. दिलीप राव ने अपने बच्चे की उच्च शिक्षा के लिए एक शोधन निधि बनाने का निर्णय लिया ताकि वह अगले 10 वर्ष में ₹ 10,00,000 की निधि इकट्ठा कर सकें। दिलीप राव को प्रत्येक वर्ष के आरंभ में कितना धन जमा करना चाहिए कि 10 वर्ष के अंत में इच्छित राशि एकत्रित हो जाए। यदि चक्रवृद्धि ब्याज दर 12% वार्षिक हो। दिया है $(1.12)^{11} = 3.477$ (सन्निकट पैसे में)

- (1) ₹ 50000
- (2) ₹ 50900
- (3) ₹ 51211.10
- (4) ₹ 50912.18

Options :

212807129761. 1
212807129762. 2
212807129763. 3
212807129764. 4

Question Number : 962 Question Id : 21280732442 Question Type : MCQ Option Shuffling : No Is Question Mandatory : No Calculator : None
Response Time : N.A Think Time : N.A Minimum Instruction Time : 0
Correct Marks : 5 Wrong Marks : 1

Question Key Details :

Key	Value
Comprehension	MCQ3

The investment in buying 525 shares of ₹ 100 each at ₹ 12 premium is :

- (1) ₹ 54800
- (2) ₹ 56800
- (3) ₹ 58000
- (4) ₹ 58800

Options :

212807129765. 1
212807129766. 2
212807129767. 3
212807129768. 4

Question Number : 962 Question Id : 21280732442 Question Type : MCQ Option Shuffling : No Is Question Mandatory : No Calculator : None
Response Time : N.A Think Time : N.A Minimum Instruction Time : 0

Correct Marks : 5 Wrong Marks : 1

Question Key Details :

Key	Value
Comprehension	MCQ3

₹ 12 अधिमूल्य वाले ₹ 100 कीमत के 525 शेयर क्रय करने के लिए निवेश राशि है :

- (1) ₹ 54800
- (2) ₹ 56800
- (3) ₹ 58000
- (4) ₹ 58800

Options :

212807129765. 1
212807129766. 2
212807129767. 3
212807129768. 4

Question Number : 963 Question Id : 21280732443 Question Type : MCQ Option Shuffling : No Is Question Mandatory : No Calculator : None
Response Time : N.A Think Time : N.A Minimum Instruction Time : 0

Correct Marks : 5 Wrong Marks : 1

Question Key Details :

Key	Value
Comprehension	MCQ3

The point estimate for the mean number of sales of cars for the following data

103, 140, 92, 115, 110, is :

- (1) 111
- (2) 112
- (3) 115
- (4) 114

Options :

212807129769. 1
212807129770. 2
212807129771. 3
212807129772. 4

Question Number : 963 Question Id : 21280732443 Question Type : MCQ Option Shuffling : No Is Question Mandatory : No Calculator : None
Response Time : N.A Think Time : N.A Minimum Instruction Time : 0

Correct Marks : 5 Wrong Marks : 1

Question Key Details :

Key	Value
-----	-------

कारों की बिक्री के लिए अधोलिखित आँकड़ों 103, 140, 92, 115, 110, से मध्यमान संख्या का बिन्दु आकलन है :

- (1) 111
- (2) 112
- (3) 115
- (4) 114

Options :

- 212807129769. 1
- 212807129770. 2
- 212807129771. 3
- 212807129772. 4

Question Number : 964 Question Id : 21280732444 Question Type : MCQ Option Shuffling : No Is Question Mandatory : No Calculator : None Response Time : N.A Think Time : N.A Minimum Instruction Time : 0

Correct Marks : 5 Wrong Marks : 1

Question Key Details :

Key	Value
Comprehension	MCQ3

If objective function for LPP is $z = 5x + 7y$ and corner points of feasible region are $(0, 0)$ $(7, 0)$ $(3, 4)$ and $(0, 2)$ then maximum value of z occurs at :

- (A) $(0, 0)$
- (B) $(7, 0)$
- (C) $(3, 4)$
- (D) $(0, 2)$
- (E) $(4, 3)$

Choose the correct answer from the options given below :

- (1) (A) and (E) Only
- (2) (C) Only
- (3) (C) and (B) Only
- (4) (C), (D), (B) Only

Options :

- 212807129773. 1
- 212807129774. 2
- 212807129775. 3
- 212807129776. 4

Question Number : 964 Question Id : 21280732444 Question Type : MCQ Option Shuffling : No Is Question Mandatory : No Calculator : None Response Time : N.A Think Time : N.A Minimum Instruction Time : 0

Correct Marks : 5 Wrong Marks : 1

Question Key Details :

Key	Value
Comprehension	MCQ3

यदि किसी LPP के लिए उद्देश्य फलन $z = 5x + 7y$ है और कोनीय बिन्दु $(0, 0)$ $(7, 0)$ $(3, 4)$ और $(0, 2)$ हैं तो z का अधिकतम मान _____ पर स्थित है।

- (A) $(0, 0)$
- (B) $(7, 0)$
- (C) $(3, 4)$
- (D) $(0, 2)$
- (E) $(4, 3)$

नीचे दिए गए विकल्पों में से सही उत्तर का चयन कीजिए :

- (1) केवल (A) और (E)
- (2) केवल (C)
- (3) केवल (C) और (B)
- (4) केवल (C), (D), (B)

Options :

- 212807129773. 1
- 212807129774. 2
- 212807129775. 3
- 212807129776. 4

Question Number : 965 Question Id : 21280732445 Question Type : MCQ Option Shuffling : No Is Question Mandatory : No Calculator : None Response Time : N.A Think Time : N.A Minimum Instruction Time : 0

Correct Marks : 5 Wrong Marks : 1

Question Key Details :

Key	Value
Comprehension	MCQ3

The maximum value of $z = 2.5x + y$ subject to the constraints $x + 3y \leq 12$, $3x + y \leq 12$, $x, y \geq 0$, is :

- (1) 4
- (2) 8.5
- (3) 10.5
- (4) 10

Options :

- 212807129777. 1
- 212807129778. 2
- 212807129779. 3
- 212807129780. 4

Question Number : 965 Question Id : 21280732445 Question Type : MCQ Option Shuffling : No Is Question Mandatory : No Calculator : None Response Time : N.A Think Time : N.A Minimum Instruction Time : 0

Correct Marks : 5 Wrong Marks : 1

Question Key Details :

Key	Value
Comprehension	MCQ3

व्यवरोधों $x + 3y \leq 12$, $3x + y \leq 12$, $x, y \geq 0$, के अन्तर्गत $z = 2.5x + y$ का अधिकतम मान है :

- (1) 4
- (2) 8.5
- (3) 10.5
- (4) 10

Options :

212807129777. 1
212807129778. 2
212807129779. 3
212807129780. 4

Sub-Section Number : 2
Sub-Section Id : 2128072543
Question Shuffling Allowed : No
Is Section Default? : null

Question Number : 966 Question Id : 21280732446 Question Type : MCQ Option Shuffling : No Is Question Mandatory : No Calculator : None Response Time : N.A Think Time : N.A Minimum Instruction Time : 0

Correct Marks : 5 Wrong Marks : 1

Question Key Details :

Key	Value
Comprehension	Comp2

The effective rate which is equivalent to stated rate of 6% compounded semiannually is :

- (1) 6.09%
(2) 1.03%
(3) 4.09%
(4) 5.09%

Options :

212807129781. 1
212807129782. 2
212807129783. 3
212807129784. 4

Question Number : 966 Question Id : 21280732446 Question Type : MCQ Option Shuffling : No Is Question Mandatory : No Calculator : None Response Time : N.A Think Time : N.A Minimum Instruction Time : 0

Correct Marks : 5 Wrong Marks : 1

Question Key Details :

Key	Value
Comprehension	Comp2

घोषित दर 6% चक्रवृद्धीय अर्द्धवार्षिक के समतुल्य प्रभावी दर है :

- (1) 6.09%
(2) 1.03%
(3) 4.09%
(4) 5.09%

Options :

212807129781. 1
212807129782. 2
212807129783. 3
212807129784. 4

Question Number : 967 Question Id : 21280732447 Question Type : MCQ Option Shuffling : No Is Question Mandatory : No Calculator : None Response Time : N.A Think Time : N.A Minimum Instruction Time : 0

Correct Marks : 5 Wrong Marks : 1

Question Key Details :

Key	Value
Comprehension	Comp2

The index number of the base year is :

- (1) 10
- (2) 100
- (3) 200
- (4) 300

Options :

- 212807129785. 1
- 212807129786. 2
- 212807129787. 3
- 212807129788. 4

Question Number : 967 Question Id : 21280732447 Question Type : MCQ Option Shuffling : No Is Question Mandatory : No Calculator : None Response Time : N.A Think Time : N.A Minimum Instruction Time : 0

Correct Marks : 5 Wrong Marks : 1

Question Key Details :

Key	Value
Comprehension	Comp2

आधार वर्ष के लिए सूचकांक है :

- (1) 10
- (2) 100
- (3) 200
- (4) 300

Options :

- 212807129785. 1
- 212807129786. 2
- 212807129787. 3
- 212807129788. 4

Question Number : 968 Question Id : 21280732448 Question Type : MCQ Option Shuffling : No Is Question Mandatory : No Calculator : None Response Time : N.A Think Time : N.A Minimum Instruction Time : 0

Correct Marks : 5 Wrong Marks : 1

Question Key Details :

Key	Value
Comprehension	Comp2

Ram and Shyam are playing a game by throwing a die alternatively till one of them gets a '1' and wins the game. The probabilities of winning by Ram and Shyam respectively if Ram starts first, is :

- (1) $\frac{6}{11}, \frac{5}{11}$
- (2) $\frac{5}{11}, \frac{6}{11}$
- (3) $\frac{3}{11}, \frac{8}{11}$
- (4) $\frac{8}{11}, \frac{3}{11}$

Options :

- 212807129789. 1
- 212807129790. 2
- 212807129791. 3

Question Number : 968 Question Id : 21280732448 Question Type : MCQ Option Shuffling : No Is Question Mandatory : No Calculator : None
Response Time : N.A Think Time : N.A Minimum Instruction Time : 0

Correct Marks : 5 Wrong Marks : 1

Question Key Details :

Key	Value
Comprehension	Comp2

राम और श्याम बारी-बारी से पासे को उछाल रहे हैं जब तक कि उनमें से एक का '1' ना आ जाय और खेल जीत ले। यदि राम खेल को शुरू करे तो राम और श्याम के जीतने की प्रायिकता क्रमशः होगी :

(1) $\frac{6}{11}, \frac{5}{11}$

(2) $\frac{5}{11}, \frac{6}{11}$

(3) $\frac{3}{11}, \frac{8}{11}$

(4) $\frac{8}{11}, \frac{3}{11}$

Options :

212807129789. 1

212807129790. 2

212807129791. 3

212807129792. 4

Question Number : 969 Question Id : 21280732449 Question Type : MCQ Option Shuffling : No Is Question Mandatory : No Calculator : None
Response Time : N.A Think Time : N.A Minimum Instruction Time : 0

Correct Marks : 5 Wrong Marks : 1

Question Key Details :

Key	Value
Comprehension	Comp2

The volume of a spherical balloon is increasing at the rate of $6 \text{ cm}^3/\text{sec}$. The rate of change of its surface area when its radius 2 cm is :

(1) $3 \text{ cm}^2/\text{sec}$

(2) $\frac{3}{2} \text{ cm}^2/\text{sec}$

(3) $6 \text{ cm}^2/\text{sec}$

(4) $9 \text{ cm}^2/\text{sec}$

Options :

212807129793. 1

212807129794. 2

212807129795. 3

212807129796. 4

Question Number : 969 Question Id : 21280732449 Question Type : MCQ Option Shuffling : No Is Question Mandatory : No Calculator : None
Response Time : N.A Think Time : N.A Minimum Instruction Time : 0

Correct Marks : 5 Wrong Marks : 1

Question Key Details :

Key	Value
Comprehension	Comp2

एक गोलीय गुब्बारे का आयतन $6 \text{ सेमी}^3/\text{सै.}$ की दर से बढ़ रहा है। इसके पृष्ठीय क्षेत्रफल के परिवर्तन की दर, यदि इसकी त्रिज्या 2 सेमी है, है :

- (1) $3 \text{ सेमी}^2/\text{सै.}$
- (2) $\frac{3}{2} \text{ सेमी}^2/\text{सै.}$
- (3) $6 \text{ सेमी}^2/\text{सै.}$
- (4) $9 \text{ सेमी}^2/\text{सै.}$

Options :

212807129793. 1
212807129794. 2
212807129795. 3
212807129796. 4

Question Number : 970 Question Id : 21280732450 Question Type : MCQ Option Shuffling : No Is Question Mandatory : No Calculator : None
Response Time : N.A Think Time : N.A Minimum Instruction Time : 0

Correct Marks : 5 Wrong Marks : 1

Question Key Details :

Key	Value
Comprehension	Comp2

In a 500 m race, the ratio of speeds of two participants A and B is 4 : 5 respectively. If A has a start of 180 m, then the distance by which A wins is :

- (1) 50 m
- (2) 140 m
- (3) 120 m
- (4) 100 m

Options :

212807129797. 1
212807129798. 2
212807129799. 3
212807129800. 4

Question Number : 970 Question Id : 21280732450 Question Type : MCQ Option Shuffling : No Is Question Mandatory : No Calculator : None
Response Time : N.A Think Time : N.A Minimum Instruction Time : 0

Correct Marks : 5 Wrong Marks : 1

Question Key Details :

Key	Value
Comprehension	Comp2

500 मीटर की एक दौड़ में, दो संभागी A और B की चालों का अनुपात क्रमशः 4 : 5 है। यदि A 180 मीटर बिन्दु से दौड़ शुरू करता है तो A कितनी दूरी से जीतता है ?

- (1) 50 मीटर
- (2) 140 मीटर
- (3) 120 मीटर
- (4) 100 मीटर

Options :

212807129797. 1
212807129798. 2
212807129799. 3

Political Science

Group Number :	25
Group Id :	212807749
Group Maximum Duration :	45
Group Minimum Duration :	45
Show Attended Group? :	No
Edit Attended Group? :	No
Break time :	0
Group Marks :	200
Is this Group for Examiner? :	No
Examiner permission :	Cant View
Show Progress Bar? :	No

Political Science

Section Id :	212807883
Section Number :	1
Section type :	Online
Mandatory or Optional :	Mandatory
Number of Questions :	50
Number of Questions to be attempted :	40
Section Marks :	200
Enable Mark as Answered Mark for Review and Clear Response :	Yes
Maximum Instruction Time :	0
Sub-Section Number :	1
Sub-Section Id :	2128072544
Question Shuffling Allowed :	Yes
Is Section Default? :	null

Question Number : 971 Question Id : 21280732501 Question Type : MCQ Option Shuffling : No Is Question Mandatory : No Calculator : None Response Time : N.A Think Time : N.A Minimum Instruction Time : 0

Correct Marks : 5 Wrong Marks : 1

Question Key Details :

Key	Value
Comprehension	MCQ

How many percent of the eligible voters of the first general election held from October 1951 to February 1952, were literate ?

- (1) 100%
- (2) 15%
- (3) 25%
- (4) 50%

Options :

- 212807130001. 1
- 212807130002. 2
- 212807130003. 3
- 212807130004. 4

Question Number : 971 Question Id : 21280732501 Question Type : MCQ Option Shuffling : No Is Question Mandatory : No Calculator : None Response Time : N.A Think Time : N.A Minimum Instruction Time : 0

Correct Marks : 5 Wrong Marks : 1

Question Key Details :

Key	Value
Comprehension	MCQ

अक्टूबर 1951 से फरवरी 1952 तक आयोजित प्रथम आम चुनाव के पात्र मतदाताओं में से कितने प्रतिशत साक्षर थे?

- (1) 100%
- (2) 15%
- (3) 25%
- (4) 50%

Options :

212807130001. 1
212807130002. 2
212807130003. 3
212807130004. 4

Question Number : 972 Question Id : 21280732502 Question Type : MCQ Option Shuffling : No Is Question Mandatory : No Calculator : None
Response Time : N.A Think Time : N.A Minimum Instruction Time : 0

Correct Marks : 5 Wrong Marks : 1

Question Key Details :

Key	Value
Comprehension	MCQ

Who among the following was the Minister for Health in independent India's first ministry ?

- (1) Sarojini Naidu
- (2) Vijaylaxmi Pandit
- (3) Rajkumari Amrit Kaur
- (4) Aruna Asaf Ali

Options :

212807130005. 1
212807130006. 2
212807130007. 3
212807130008. 4

Question Number : 972 Question Id : 21280732502 Question Type : MCQ Option Shuffling : No Is Question Mandatory : No Calculator : None
Response Time : N.A Think Time : N.A Minimum Instruction Time : 0

Correct Marks : 5 Wrong Marks : 1

Question Key Details :

Key	Value
Comprehension	MCQ

निम्नलिखित में से कौन स्वतंत्र भारत की प्रथम मंत्रिपरिषद में स्वास्थ्य मंत्री था/थी ?

- (1) सरोजिनी नायडू
- (2) विजय लक्ष्मी पंडित
- (3) राजकुमारी अमृत कौर
- (4) अरूणा आसफ अली

Options :

212807130005. 1
212807130006. 2
212807130007. 3
212807130008. 4

Question Number : 973 Question Id : 21280732503 Question Type : MCQ Option Shuffling : No Is Question Mandatory : No Calculator : None
Response Time : N.A Think Time : N.A Minimum Instruction Time : 0

Correct Marks : 5 Wrong Marks : 1

Question Key Details :

Key	Value
Comprehension	MCQ

Which of the following statement correct with reference to independent India :

- (A) All the princely states agreed to join the Indian Union willingly
- (B) The internal boundaries of the country needed to be drawn afresh
- (C) The famous speech 'tryst with destiny' was given by Sardar Vallabhbhai Patel, the Deputy Prime Minister of India
- (D) Freedom came with partition, which resulted in large scale violence and displacement

Choose the correct answer from the options given below :

- (1) (C) And (D) Only
- (2) (D) And (A) Only
- (3) (B) And (D) Only
- (4) (B), (D) And (A) Only

Options :

- 212807130009. 1
- 212807130010. 2
- 212807130011. 3
- 212807130012. 4

Question Number : 973 Question Id : 21280732503 Question Type : MCQ Option Shuffling : No Is Question Mandatory : No Calculator : None Response Time : N.A Think Time : N.A Minimum Instruction Time : 0

Correct Marks : 5 Wrong Marks : 1

Question Key Details :

Key	Value
Comprehension	MCQ

निम्नलिखित में से कौन-से कथन स्वतंत्र भारत के संदर्भ में सही हैं?

- (A) सभी देशी रियासतें स्वैच्छिक रूप से भारत संघ में सम्मिलित होने पर सहमत हुईं
- (B) देश की आंतरिक सीमाओं को नए सिरे से खींचना आवश्यक था
- (C) भारत के उप-प्रधान मंत्री सरदार वल्लभ भाई पटेल ने प्रसिद्ध भाषण "ट्रिस्ट विद डेस्टिनी" दिया था
- (D) विभाजन के साथ स्वतंत्रता मिली, जिसके परिणामस्वरूप बड़े पैमाने पर हिंसा और विस्थापन हुआ

नीचे दिए गए विकल्पों में से सही उत्तर का चयन कीजिए :

- (1) केवल (C) और (D)
- (2) केवल (D) और (A)
- (3) केवल (B) और (D)
- (4) केवल (B), (D) और (A)

Options :

- 212807130009. 1
- 212807130010. 2
- 212807130011. 3
- 212807130012. 4

Question Number : 974 Question Id : 21280732504 Question Type : MCQ Option Shuffling : No Is Question Mandatory : No Calculator : None Response Time : N.A Think Time : N.A Minimum Instruction Time : 0

Correct Marks : 5 Wrong Marks : 1

Question Key Details :

Key	Value
Comprehension	MCQ

Match List - I with List - II.

List - I

- (A) Two-nation theory
(B) Tryst with destiny
(C) Abdul Gaffar Khan
(D) Amrita Pritam

List - II

- (I) Frontier Gandhi
(II) Editor Nagmani magazine
(III) Muslim league
(IV) Jawaharlal Nehru

Choose the correct answer from the options given below :

- (1) (A)-(II), (B)-(I), (C)-(III), (D)-(IV)
(2) (A)-(I), (B)-(II), (C)-(IV), (D)-(III)
(3) (A)-(III), (B)-(IV), (C)-(I), (D)-(II)
(4) (A)-(IV), (B)-(III), (C)-(II), (D)-(I)

Options :

212807130013. 1
212807130014. 2
212807130015. 3
212807130016. 4

Question Number : 974 Question Id : 21280732504 Question Type : MCQ Option Shuffling : No Is Question Mandatory : No Calculator : None
Response Time : N.A Think Time : N.A Minimum Instruction Time : 0

Correct Marks : 5 Wrong Marks : 1

Question Key Details :

Key	Value
Comprehension	MCQ

सूची-I से सूची-II का मिलान कीजिए :

सूची-I

- (A) द्विराष्ट्र सिद्धांत
(B) “ट्रिस्ट विद डेस्टिनी”
(C) अब्दुल गफ्फार खान
(D) अमृता प्रीतम

सूची-II

- (I) सीमांत गांधी
(II) संपादक, नागमणि पत्रिका
(III) मुस्लिम लीग
(IV) जवाहर लाल नेहरू

नीचे दिए गए विकल्पों में से सही उत्तर का चयन कीजिए :

- (1) (A)-(II), (B)-(I), (C)-(III), (D)-(IV)
(2) (A)-(I), (B)-(II), (C)-(IV), (D)-(III)
(3) (A)-(III), (B)-(IV), (C)-(I), (D)-(II)
(4) (A)-(IV), (B)-(III), (C)-(II), (D)-(I)

Options :

212807130013. 1
212807130014. 2
212807130015. 3
212807130016. 4

Question Number : 975 Question Id : 21280732505 Question Type : MCQ Option Shuffling : No Is Question Mandatory : No Calculator : None
Response Time : N.A Think Time : N.A Minimum Instruction Time : 0

Correct Marks : 5 Wrong Marks : 1

Question Key Details :

Key	Value
Comprehension	MCQ

Match List - I with List - II.

List - I	List - II
(A) P.C. Mahalanobis	(I) Author of "Economy of performance"
(B) K.N. Raj	(II) Milkman of India
(C) J.C. Kumarappa	(III) Architect of the First Five Year Plan
(D) Verghese Kurien	(IV) Founder of Indian Statistical Institute

Choose the correct answer from the options given below :

- (1) (A)-(IV), (B)-(II), (C)-(I), (D)-(III)
- (2) (A)-(IV), (B)-(III), (C)-(I), (D)-(II)
- (3) (A)-(III), (B)-(II), (C)-(I), (D)-(IV)
- (4) (A)-(III), (B)-(I), (C)-(II), (D)-(IV)

Options :

212807130017. 1
212807130018. 2
212807130019. 3
212807130020. 4

Question Number : 975 Question Id : 21280732505 Question Type : MCQ Option Shuffling : No Is Question Mandatory : No Calculator : None Response Time : N.A Think Time : N.A Minimum Instruction Time : 0

Correct Marks : 5 Wrong Marks : 1

Question Key Details :

Key	Value
Comprehension	MCQ

सूची-I से सूची-II का मिलान कीजिए :

सूची-I	सूची-II
(A) पी. सी. महालनोबिस	(I) "इकोनॉमी ऑफ परफॉर्मेंस" के लेखक
(B) के. एन. राज	(II) मिल्कमैन ऑफ इंडिया
(C) जे. सी. कुमारप्पा	(III) प्रथम पंचवर्षीय योजना के निर्माता
(D) वर्गीज कुरियन	(IV) भारतीय सांख्यिकीय संस्थान के संस्थापक

नीचे दिए गए विकल्पों में से सही उत्तर का चयन कीजिए :

- (1) (A)-(IV), (B)-(II), (C)-(I), (D)-(III)
- (2) (A)-(IV), (B)-(III), (C)-(I), (D)-(II)
- (3) (A)-(III), (B)-(II), (C)-(I), (D)-(IV)
- (4) (A)-(III), (B)-(I), (C)-(II), (D)-(IV)

Options :

212807130017. 1
212807130018. 2
212807130019. 3
212807130020. 4

Question Number : 976 Question Id : 21280732506 Question Type : MCQ Option Shuffling : No Is Question Mandatory : No Calculator : None Response Time : N.A Think Time : N.A Minimum Instruction Time : 0

Correct Marks : 5 Wrong Marks : 1

Question Key Details :

Key	Value
Comprehension	MCQ

Identify the incorrect statement with reference to planning commission :

- (A) The President is the Chairperson of the Planning Commission
- (B) The Planning commission was set up in March 1950
- (C) The concept of five year plan was adopted from USA
- (D) A section of big industrialist get together in 1944 and drafted a joint proposal called 'Bombay Plan'
- (E) The draft of the first five year plan was released in December 1951

Choose the correct answer from the options given below :

- (1) (A) And (C) Only
- (2) (C) And (B) Only
- (3) (D) And (A) Only
- (4) (E) And (B) Only

Options :

- 212807130021. 1
- 212807130022. 2
- 212807130023. 3
- 212807130024. 4

Question Number : 976 Question Id : 21280732506 Question Type : MCQ Option Shuffling : No Is Question Mandatory : No Calculator : None Response Time : N.A Think Time : N.A Minimum Instruction Time : 0

Correct Marks : 5 Wrong Marks : 1

Question Key Details :

Key	Value
Comprehension	MCQ

निम्नलिखित में से योजना आयोग के संदर्भ में गलत कथनों की पहचान कीजिए :

- (A) राष्ट्रपति योजना आयोग के अध्यक्ष हैं
- (B) योजना आयोग की स्थापना 1950 में की गई थी
- (C) पंचवर्षीय योजना की अवधारणा को संयुक्त राज्य अमेरिका से अपनाया गया था
- (D) बड़े उद्योगपतियों का एक वर्ग 1944 में एकत्रित हुआ और उसने 'बॉम्बे प्लान' नामक एक प्रारूप तैयार किया था।
- (E) प्रथम पंचवर्षीय योजना का प्रारूप दिसंबर 1951 में जारी किया गया था

नीचे दिए गए विकल्पों में से सही उत्तर का चयन कीजिए :

- (1) केवल (A) और (C)
- (2) केवल (C) और (B)
- (3) केवल (D) और (A)
- (4) केवल (E) और (B)

Options :

- 212807130021. 1
- 212807130022. 2
- 212807130023. 3
- 212807130024. 4

Question Number : 977 Question Id : 21280732507 Question Type : MCQ Option Shuffling : No Is Question Mandatory : No Calculator : None Response Time : N.A Think Time : N.A Minimum Instruction Time : 0

Correct Marks : 5 Wrong Marks : 1

Question Key Details :

Key	Value
-----	-------

Tashkent is currently the capital of :

- (1) Kazakstan
- (2) Uzbekistan
- (3) Turkmenistan
- (4) Tajikstan

Options :

212807130025. 1
212807130026. 2
212807130027. 3
212807130028. 4

Question Number : 977 Question Id : 21280732507 Question Type : MCQ Option Shuffling : No Is Question Mandatory : No Calculator : None
Response Time : N.A Think Time : N.A Minimum Instruction Time : 0

Correct Marks : 5 Wrong Marks : 1

Question Key Details :

Key	Value
Comprehension	MCQ

ताशकंद वर्तमान में किसकी राजधानी है?

- (1) कज़ाकिस्तान
- (2) उज़बेकिस्तान
- (3) तुर्कमेनिस्तान
- (4) ताज़िकिस्तान

Options :

212807130025. 1
212807130026. 2
212807130027. 3
212807130028. 4

Question Number : 978 Question Id : 21280732508 Question Type : MCQ Option Shuffling : No Is Question Mandatory : No Calculator : None
Response Time : N.A Think Time : N.A Minimum Instruction Time : 0

Correct Marks : 5 Wrong Marks : 1

Question Key Details :

Key	Value
Comprehension	MCQ

Directive Principles of State Policy is stated by article :

- (1) 15
- (2) 51
- (3) 53
- (4) 55

Options :

212807130029. 1
212807130030. 2
212807130031. 3
212807130032. 4

Question Number : 978 Question Id : 21280732508 Question Type : MCQ Option Shuffling : No Is Question Mandatory : No Calculator : None
Response Time : N.A Think Time : N.A Minimum Instruction Time : 0

Correct Marks : 5 Wrong Marks : 1

Question Key Details :

Key	Value
Comprehension	MCQ

राज्य के नीति निर्देशक सिद्धांत किस अनुच्छेद से संबंधित हैं?

- (1) 15
- (2) 51
- (3) 53
- (4) 55

Options :

212807130029. 1
212807130030. 2
212807130031. 3
212807130032. 4

Question Number : 979 Question Id : 21280732509 Question Type : MCQ Option Shuffling : No Is Question Mandatory : No Calculator : None
Response Time : N.A Think Time : N.A Minimum Instruction Time : 0

Correct Marks : 5 Wrong Marks : 1

Question Key Details :

Key	Value
Comprehension	MCQ

Who among the following resigned from the union Cabinet in 1956 taking the responsibility for the railway accident.

- (1) Jagjivan Ram
- (2) Lal Bahadur Shastri
- (3) Indira Gandhi
- (4) Ram Manohar Lohia

Options :

212807130033. 1
212807130034. 2
212807130035. 3
212807130036. 4

Question Number : 979 Question Id : 21280732509 Question Type : MCQ Option Shuffling : No Is Question Mandatory : No Calculator : None
Response Time : N.A Think Time : N.A Minimum Instruction Time : 0

Correct Marks : 5 Wrong Marks : 1

Question Key Details :

Key	Value
Comprehension	MCQ

निम्नलिखित में से किसने रेलवे दुर्घटना का उत्तरदायित्व स्वीकार करते हुए 1956 में केन्द्रीय मंत्रिमंडल से त्याग पत्र दे दिया था ?

- (1) जगजीवन राम
- (2) लाल बहादुर शास्त्री
- (3) इंदिरा गांधी
- (4) राम मनोहर लोहिया

Options :

212807130033. 1
212807130034. 2
212807130035. 3
212807130036. 4

Question Number : 980 Question Id : 21280732510 Question Type : MCQ Option Shuffling : No Is Question Mandatory : No Calculator : None
Response Time : N.A Think Time : N.A Minimum Instruction Time : 0

Correct Marks : 5 Wrong Marks : 1

Question Key Details :

Key	Value
Comprehension	MCQ

Who among the following supported a 'Party of Socialism' as an attempt of merging all political parties.

- (1) Sardar Patel
- (2) Deendayal Upadhyaya
- (3) Ram Manohar Lohia
- (4) Jaya Prakash Narayan

Options :

212807130037. 1
212807130038. 2
212807130039. 3
212807130040. 4

Question Number : 980 Question Id : 21280732510 Question Type : MCQ Option Shuffling : No Is Question Mandatory : No Calculator : None
Response Time : N.A Think Time : N.A Minimum Instruction Time : 0

Correct Marks : 5 Wrong Marks : 1

Question Key Details :

Key	Value
Comprehension	MCQ

निम्नलिखित में से किसने सभी राजनीतिक दलों के विलय के प्रयास के रूप 'समाजवाद की पार्टी' (पार्टी ऑफ सोशिएलिज्म) का समर्थन किया था ?

- (1) सरदार पटेल
- (2) दीनदयाल उपाध्याय
- (3) राम मनोहर लोहिया
- (4) जय प्रकाश नारायण

Options :

212807130037. 1
212807130038. 2
212807130039. 3
212807130040. 4

Question Number : 981 Question Id : 21280732511 Question Type : MCQ Option Shuffling : No Is Question Mandatory : No Calculator : None
Response Time : N.A Think Time : N.A Minimum Instruction Time : 0

Correct Marks : 5 Wrong Marks : 1

Question Key Details :

Key	Value
Comprehension	MCQ

Given below are two statements :

Statement (I) : The Bangladesh crisis had put a heavy strain on India's economy. In the international market, oil prices increased manifold during this period. There was an all round increase in prices of commodities

Statement (II) : Industrial growth was high and unemployment low. There was a sharp increase in agricultural productivity and an atmosphere of satisfaction with prevailing economic conditions in 1970s

In the light of the above statements, choose the **most appropriate** answer from the options given below :

- (1) Both **Statement (I)** and **Statement (II)** are correct
- (2) Both **Statement (I)** and **Statement (II)** are incorrect
- (3) **Statement (I)** is correct but **Statement (II)** is incorrect
- (4) **Statement (I)** is incorrect but **Statement (II)** is correct

Options :

212807130041. 1
212807130042. 2
212807130043. 3
212807130044. 4

Question Number : 981 Question Id : 21280732511 Question Type : MCQ Option Shuffling : No Is Question Mandatory : No Calculator : None
Response Time : N.A Think Time : N.A Minimum Instruction Time : 0

Correct Marks : 5 Wrong Marks : 1

Question Key Details :

Key	Value
Comprehension	MCQ

नीचे दो कथन दिए गए हैं :

कथन (I) : बांग्लादेश संकट ने भारतीय अर्थव्यवस्था पर भारी बोझ डाला था इस अवधि के दौरान अंतर्राष्ट्रीय बाजार में तेल की कीमतें कई गुना बढ़ी थीं। वस्तुओं की कीमतों में चहुंमुखी वृद्धि हुई थी।

कथन (II) : औद्योगिक संवृद्धि उच्च थी और बेरोजगारी निम्न स्तर पर थी। 1970 के दशक में कृषि उत्पादकता में तीव्र वृद्धि हुई और प्रचलित आर्थिक स्थितियों के प्रति संतुष्टि का वातावरण था।

उपरोक्त कथन के आलोक में, नीचे दिए गए विकल्पों में से सही उत्तर चयन कीजिए :

- (1) कथन I और कथन II दोनों सत्य हैं
- (2) कथन I और कथन II दोनों असत्य हैं
- (3) कथन I सत्य है, लेकिन कथन II असत्य है
- (4) कथन I असत्य है, लेकिन कथन II सत्य है

Options :

212807130041. 1
212807130042. 2
212807130043. 3
212807130044. 4

Question Number : 982 Question Id : 21280732512 Question Type : MCQ Option Shuffling : No Is Question Mandatory : No Calculator : None
Response Time : N.A Think Time : N.A Minimum Instruction Time : 0

Correct Marks : 5 Wrong Marks : 1

Question Key Details :

Key	Value
Comprehension	MCQ

Who among the following gave a call in 1974 for Total Revolution in the social, economic and political spheres in order to establish true democracy ?

- (1) Charu Majumdar
- (2) George Fernandes
- (3) Jay Prakash Narayan
- (4) Moraraji Desai

Options :

212807130045. 1
212807130046. 2
212807130047. 3
212807130048. 4

Question Number : 982 Question Id : 21280732512 Question Type : MCQ Option Shuffling : No Is Question Mandatory : No Calculator : None
Response Time : N.A Think Time : N.A Minimum Instruction Time : 0

Correct Marks : 5 Wrong Marks : 1

Question Key Details :

Key	Value
Comprehension	MCQ

निम्नलिखित में से किसने 1974 में सच्चे लोकतंत्र की स्थापना के लिए सामाजिक, आर्थिक और राजनीति क्षेत्रों में सम्पूर्ण क्रांति का आह्वान किया था ?

- (1) चारू मजूमदार
- (2) जॉर्ज फर्नांडिस
- (3) जय प्रकाश नारायण
- (4) मोरारजी देसाई

Options :

212807130045. 1
212807130046. 2
212807130047. 3
212807130048. 4

Question Number : 983 Question Id : 21280732513 Question Type : MCQ Option Shuffling : No Is Question Mandatory : No Calculator : None
Response Time : N.A Think Time : N.A Minimum Instruction Time : 0
Correct Marks : 5 Wrong Marks : 1

Question Key Details :

Key	Value
Comprehension	MCQ

The Akali Dal formed in 1920 as the political wing of the sikhs led the movement for the formation of which of the following ?

- (1) Akali Suba
- (2) Sikh Suba
- (3) Punjabi Suba
- (4) Shiromani Suba

Options :

212807130049. 1
212807130050. 2
212807130051. 3
212807130052. 4

Question Number : 983 Question Id : 21280732513 Question Type : MCQ Option Shuffling : No Is Question Mandatory : No Calculator : None
Response Time : N.A Think Time : N.A Minimum Instruction Time : 0
Correct Marks : 5 Wrong Marks : 1

Question Key Details :

Key	Value
Comprehension	MCQ

सिखों की राजनीतिक शाखा के रूप में 1920 में बनाए गए अकाली दल ने निम्नलिखित में से किसके निर्माण के लिए आंदोलन का मार्ग प्रशस्त किया ?

- (1) अकाली सूबा
- (2) सिख सूबा
- (3) पंजाबी सूबा
- (4) शिरोमणि सूबा

Options :

212807130049. 1
212807130050. 2
212807130051. 3
212807130052. 4

Question Number : 984 Question Id : 21280732514 Question Type : MCQ Option Shuffling : No Is Question Mandatory : No Calculator : None
Response Time : N.A Think Time : N.A Minimum Instruction Time : 0

Correct Marks : 5 Wrong Marks : 1

Question Key Details :

Key	Value
Comprehension	MCQ

Which of the following region serves as India's gateway to south East Asia and shares boundaries with China, Myanmar and Bangladesh ?

- (1) North India
- (2) North East India
- (3) South West India
- (4) South India

Options :

212807130053. 1
212807130054. 2
212807130055. 3
212807130056. 4

Question Number : 984 Question Id : 21280732514 Question Type : MCQ Option Shuffling : No Is Question Mandatory : No Calculator : None
Response Time : N.A Think Time : N.A Minimum Instruction Time : 0

Correct Marks : 5 Wrong Marks : 1

Question Key Details :

Key	Value
Comprehension	MCQ

निम्नलिखित में से कौन-सा क्षेत्र भारत के लिए दक्षिण पूर्व एशिया के द्वार के रूप में कार्य करता है और चीन, म्यांमार एवं बांग्लादेश के साथ सीमाएं साझा करता है ?

- (1) उत्तर भारत
- (2) उत्तर-पूर्व भारत
- (3) दक्षिण-पश्चिम भारत
- (4) दक्षिण भारत

Options :

212807130053. 1
212807130054. 2
212807130055. 3
212807130056. 4

Question Number : 985 Question Id : 21280732515 Question Type : MCQ Option Shuffling : No Is Question Mandatory : No Calculator : None
Response Time : N.A Think Time : N.A Minimum Instruction Time : 0

Correct Marks : 5 Wrong Marks : 1

Question Key Details :

Key	Value
Comprehension	MCQ

In his poem 'Pilgrims of darkness' the Marathi poet Namdeo Dhasal is referring to :

- (1) Medha Patekar
- (2) Chaudhary Charan Singh
- (3) Mahendra Singh Tikait
- (4) Dr. B.R. Ambedkar

Options :

212807130057. 1
212807130058. 2
212807130059. 3
212807130060. 4

Question Number : 985 Question Id : 21280732515 Question Type : MCQ Option Shuffling : No Is Question Mandatory : No Calculator : None
Response Time : N.A Think Time : N.A Minimum Instruction Time : 0

Correct Marks : 5 Wrong Marks : 1

Question Key Details :

Key	Value
Comprehension	MCQ

अपनी कविता "पिलग्रिम्स ऑफ़ डार्कनेस" में मराठी कवि नामदेव ढसाल किसको संदर्भित करते हैं?

- (1) मेधा पाटकर
- (2) चौधरी चरण सिंह
- (3) महेन्द्र सिंह टिकैत
- (4) डॉ. बी. आर. अम्बेडकर

Options :

212807130057. 1

212807130058. 2

212807130059. 3

212807130060. 4

Question Number : 986 Question Id : 21280732516 Question Type : MCQ Option Shuffling : No Is Question Mandatory : No Calculator : None
Response Time : N.A Think Time : N.A Minimum Instruction Time : 0

Correct Marks : 5 Wrong Marks : 1

Question Key Details :

Key	Value
Comprehension	MCQ

Match List - I with List - II.

List - I

- (A) Anti Arrack Movement
- (B) National Fish Worker Forum
- (C) Bhartiya Kisan Union
- (D) Sardar Sarovar Project

List - II

- (I) Uttar Pradesh
- (II) Gujrat
- (III) Andhra Pradesh
- (IV) Kerala

Choose the correct answer from the options given below :

- (1) (A)-(I), (B)-(II), (C)-(III), (D)-(IV)
- (2) (A)-(III), (B)-(IV), (C)-(I), (D)-(II)
- (3) (A)-(IV), (B)-(III), (C)-(II), (D)-(I)
- (4) (A)-(II), (B)-(I), (C)-(IV), (D)-(III)

Options :

212807130061. 1

212807130062. 2

212807130063. 3

212807130064. 4

Question Number : 986 Question Id : 21280732516 Question Type : MCQ Option Shuffling : No Is Question Mandatory : No Calculator : None
Response Time : N.A Think Time : N.A Minimum Instruction Time : 0

Correct Marks : 5 Wrong Marks : 1

Question Key Details :

Key	Value
Comprehension	MCQ

सूची-I से सूची-II का मिलान कीजिए:

सूची-I

- (A) ताड़ी-विरोधी आंदोलन
(B) नेशनल फिश वर्कर्स फोरम (राष्ट्रीय मत्स्य कर्मचारी मंच)
(C) भारतीय किसान यूनियन
(D) सरदार सरोवर परियोजना

सूची-II

- (I) उत्तर प्रदेश
(II) गुजरात
(III) आंध्र प्रदेश
(IV) केरल

नीचे दिए गए विकल्पों में से सही उत्तर का चयन कीजिए :

- (1) (A)-(I), (B)-(II), (C)-(III), (D)-(IV)
(2) (A)-(III), (B)-(IV), (C)-(I), (D)-(II)
(3) (A)-(IV), (B)-(III), (C)-(II), (D)-(I)
(4) (A)-(II), (B)-(I), (C)-(IV), (D)-(III)

Options :

212807130061. 1
212807130062. 2
212807130063. 3
212807130064. 4

Question Number : 987 Question Id : 21280732517 Question Type : MCQ Option Shuffling : No Is Question Mandatory : No Calculator : None
Response Time : N.A Think Time : N.A Minimum Instruction Time : 0

Correct Marks : 5 Wrong Marks : 1

Question Key Details :

Key	Value
Comprehension	MCQ

The National Front which formed Government in 1989 was supported by two diametrically opposite political groups :

- (1) BJP and Jan Sangh
(2) BJP and the Left Front
(3) Left Front and the Congress Party
(4) Left Front and Jan Sangh

Options :

212807130065. 1
212807130066. 2
212807130067. 3
212807130068. 4

Question Number : 987 Question Id : 21280732517 Question Type : MCQ Option Shuffling : No Is Question Mandatory : No Calculator : None
Response Time : N.A Think Time : N.A Minimum Instruction Time : 0

Correct Marks : 5 Wrong Marks : 1

Question Key Details :

Key	Value
Comprehension	MCQ

निम्नलिखित में से किन दो पूरी तरह से भिन्न विरोधी राजनीतिक समूहों ने 1989 में राष्ट्रीय मोर्चा सरकार के निर्माण का समर्थन किया था ?

- (1) बी. जे. पी. और जन संघ
(2) बी. जे. पी. और वाम मोर्चा
(3) वाम मोर्चा और कांग्रेस पार्टी
(4) वाम मोर्चा और जन संघ

Options :

- 212807130065. 1
- 212807130066. 2
- 212807130067. 3
- 212807130068. 4

Question Number : 988 Question Id : 21280732518 Question Type : MCQ Option Shuffling : No Is Question Mandatory : No Calculator : None Response Time : N.A Think Time : N.A Minimum Instruction Time : 0

Correct Marks : 5 Wrong Marks : 1

Question Key Details :

Key	Value
Comprehension	MCQ

The term 'Bahujan' refers to :

- (1) ST and SC
- (2) SC, OBC and ST
- (3) SC, ST, OBC and minorities
- (4) OBC and minorities

Options :

- 212807130069. 1
- 212807130070. 2
- 212807130071. 3
- 212807130072. 4

Question Number : 988 Question Id : 21280732518 Question Type : MCQ Option Shuffling : No Is Question Mandatory : No Calculator : None Response Time : N.A Think Time : N.A Minimum Instruction Time : 0

Correct Marks : 5 Wrong Marks : 1

Question Key Details :

Key	Value
Comprehension	MCQ

'बहुजन' पद किसको संदर्भित करता है ?

- (1) एस. टी. और एस. सी.
- (2) एस. सी., ओ. बी. सी. और एस. टी.
- (3) एस. सी., एस. टी., ओ. बी. सी. और अल्प संख्यक वर्ग
- (4) ओ. बी. सी. और अल्पसंख्यक वर्ग

Options :

- 212807130069. 1
- 212807130070. 2
- 212807130071. 3
- 212807130072. 4

Question Number : 989 Question Id : 21280732519 Question Type : MCQ Option Shuffling : No Is Question Mandatory : No Calculator : None Response Time : N.A Think Time : N.A Minimum Instruction Time : 0

Correct Marks : 5 Wrong Marks : 1

Question Key Details :

Key	Value
Comprehension	MCQ

The term 'delimitation' refers to :

- (1) limiting the powers of the government
- (2) limits powers to the public
- (3) drawing the boundaries of the electoral constituencies
- (4) drawing the electoral roll

Options :

- 212807130073. 1

212807130074. 2
212807130075. 3
212807130076. 4

Question Number : 989 Question Id : 21280732519 Question Type : MCQ Option Shuffling : No Is Question Mandatory : No Calculator : None
Response Time : N.A Think Time : N.A Minimum Instruction Time : 0

Correct Marks : 5 Wrong Marks : 1

Question Key Details :

Key	Value
Comprehension	MCQ

‘परिसीमन’ पद किसको संदर्भित करता है ?

- (1) सरकार की शक्तियों को सीमित करना
- (2) जनता की असीम शक्तियां
- (3) निर्वाचन क्षेत्रों की सीमाएं खींचना
- (4) मतदाता सूची बनाना

Options :

212807130073. 1
212807130074. 2
212807130075. 3
212807130076. 4

Question Number : 990 Question Id : 21280732520 Question Type : MCQ Option Shuffling : No Is Question Mandatory : No Calculator : None
Response Time : N.A Think Time : N.A Minimum Instruction Time : 0

Correct Marks : 5 Wrong Marks : 1

Question Key Details :

Key	Value
Comprehension	MCQ

Which schedule of the Indian Constitution allows different tribes complete autonomy of preserving their policies and customary laws ?

- (1) First Schedule
- (2) Fourth Schedule
- (3) Sixth Schedule
- (4) Ninth Schedule

Options :

212807130077. 1
212807130078. 2
212807130079. 3
212807130080. 4

Question Number : 990 Question Id : 21280732520 Question Type : MCQ Option Shuffling : No Is Question Mandatory : No Calculator : None
Response Time : N.A Think Time : N.A Minimum Instruction Time : 0

Correct Marks : 5 Wrong Marks : 1

Question Key Details :

Key	Value
Comprehension	MCQ

भारतीय संविधान की कौन-सी अनुसूची भिन्न जनजातियों को अपनी प्रथाओं और प्रथागत विधियों (कानून) के संरक्षण की पूर्ण स्वायत्तता प्रदान करती है ?

- (1) प्रथम अनुसूची
- (2) चतुर्थ अनुसूची
- (3) छठी अनुसूची
- (4) नवीं अनुसूची

Options :

212807130077. 1
 212807130078. 2
 212807130079. 3
 212807130080. 4

Question Number : 991 Question Id : 21280732521 Question Type : MCQ Option Shuffling : No Is Question Mandatory : No Calculator : None Response Time : N.A Think Time : N.A Minimum Instruction Time : 0

Correct Marks : 5 Wrong Marks : 1

Question Key Details :

Key	Value
Comprehension	MCQ

Match List - I with List - II.**List - I****Political Leaders**

- (A) Josip Broz Tito
 (B) Gamel Abdul Nasser
 (C) Sukarno
 (D) Kwane N Krumah

List - II**Country**

- (I) Egypt
 (II) Yugoslavia
 (III) Ghana
 (IV) Indonesia

Choose the **correct** answer from the options given below :

- (1) (A)-(II), (B)-(I), (C)-(IV), (D)-(III)
 (2) (A)-(II), (B)-(I), (C)-(III), (D)-(IV)
 (3) (A)-(IV), (B)-(I), (C)-(II), (D)-(III)
 (4) (A)-(III), (B)-(II), (C)-(I), (D)-(IV)

Options :

212807130081. 1
 212807130082. 2
 212807130083. 3
 212807130084. 4

Question Number : 991 Question Id : 21280732521 Question Type : MCQ Option Shuffling : No Is Question Mandatory : No Calculator : None Response Time : N.A Think Time : N.A Minimum Instruction Time : 0

Correct Marks : 5 Wrong Marks : 1

Question Key Details :

Key	Value
Comprehension	MCQ

सूची-I से सूची-II का मिलान कीजिए :

सूची-I	सूची-II
राजनीतिक नेता	देश
(A) जोसेफ ब्रॉज़ टीटो	(I) मिस्र
(B) गमाल अब्दुल नासिर	(II) युगोस्लाविया
(C) सुकर्णो	(III) घाना
(D) वामे एनक्रूमा	(IV) इंडोनेशिया

नीचे दिए गए विकल्पों में से सही उत्तर का चयन कीजिए :

- (1) (A)-(II), (B)-(I), (C)-(IV), (D)-(III)
- (2) (A)-(II), (B)-(I), (C)-(III), (D)-(IV)
- (3) (A)-(IV), (B)-(I), (C)-(II), (D)-(III)
- (4) (A)-(III), (B)-(II), (C)-(I), (D)-(IV)

Options :

212807130081. 1
212807130082. 2
212807130083. 3
212807130084. 4

Question Number : 992 Question Id : 21280732522 Question Type : MCQ Option Shuffling : No Is Question Mandatory : No Calculator : None
Response Time : N.A Think Time : N.A Minimum Instruction Time : 0

Correct Marks : 5 Wrong Marks : 1

Question Key Details :

Key	Value
Comprehension	MCQ

Given below are two statements :

Statement (I) : The cold war was an intense form of rivalry between great powers but both sides had the capacity to retaliate against any attack and cause so much of destruction that neither could afford to initiate war

Statement (II) : The two superpowers and the countries in the rival block were expected to behave as rational and responsible actors

In the light of the above statements, choose the **most appropriate** answer from the options given below :

- (1) Both **Statement (I)** and **Statement (II)** are correct
- (2) Both **Statement (I)** and **Statement (II)** are incorrect
- (3) **Statement (I)** is correct but **Statement (II)** is incorrect
- (4) **Statement (I)** is incorrect but **Statement (II)** is correct

Options :

212807130085. 1
212807130086. 2
212807130087. 3
212807130088. 4

Question Number : 992 Question Id : 21280732522 Question Type : MCQ Option Shuffling : No Is Question Mandatory : No Calculator : None
Response Time : N.A Think Time : N.A Minimum Instruction Time : 0

Correct Marks : 5 Wrong Marks : 1

Question Key Details :

Key	Value
-----	-------

नीचे दो कथन दिए गए हैं :

कथन (I) : शीत युद्ध बड़ी शक्तियों के बीच प्रतिद्वन्द्विता का एक गहन रूप था, लेकिन दोनों पक्षों के पास किसी भी हमले के प्रतिकार की क्षमता थी और विध्वंस कर पाने की दोनों पक्षों में से कोई भी युद्ध आरंभ करने का जोखिम मोल नहीं ले सकता था।

कथन (II) : दोनों महाशक्तियां और प्रतिद्वन्द्वी खेमें में सम्मिलित देशों से विवेकपूर्ण और उत्तरदायी कर्ताओं (एक्टर्स) के रूप में आचरण करने की अपेक्षा की गई थी।

उपरोक्त कथन के आलोक में, नीचे दिए गए विकल्पों में से **सही उत्तर** चयन कीजिए:

- (1) कथन I और कथन II दोनों सत्य हैं
- (2) कथन I और कथन II दोनों असत्य हैं
- (3) कथन I सत्य है, लेकिन कथन II असत्य है
- (4) कथन I असत्य है, लेकिन कथन II सत्य है

Options :

212807130085. 1
212807130086. 2
212807130087. 3
212807130088. 4

Question Number : 993 Question Id : 21280732523 Question Type : MCQ Option Shuffling : No Is Question Mandatory : No Calculator : None Response Time : N.A Think Time : N.A Minimum Instruction Time : 0

Correct Marks : 5 Wrong Marks : 1

Question Key Details :

Key	Value
Comprehension	MCQ

Arrange the following order in sequence the regime period of Soviet and Russia.

- (A) Joseph Stalin
- (B) Leonid Brezhnev
- (C) Nikita Khrushchev
- (D) Boris Yeltsin
- (E) Mikhail Gorbachev

Choose the **correct** answer from the options given below :

- (1) (A), (B), (C), (D), (E)
- (2) (B), (C), (D), (E), (A)
- (3) (A), (C), (B), (E), (D)
- (4) (E), (A), (C), (D), (B)

Options :

212807130089. 1
212807130090. 2
212807130091. 3
212807130092. 4

Question Number : 993 Question Id : 21280732523 Question Type : MCQ Option Shuffling : No Is Question Mandatory : No Calculator : None Response Time : N.A Think Time : N.A Minimum Instruction Time : 0

Correct Marks : 5 Wrong Marks : 1

Question Key Details :

Key	Value
-----	-------

निम्नलिखित को सोवियत संघ और रूस के शासन की अवधियों के अनुसार सही अनुक्रम में व्यवस्थित कीजिए।

- (A) जोसेफ स्टालिन
- (B) लियोनिद ब्रेझ्नेव
- (C) निकिता ख्रुश्चेव
- (D) बोरिस येल्तसिन
- (E) मिखाइल गोर्बाचेव

नीचे दिए गए विकल्पों में से सही उत्तर का चयन कीजिए :

- (1) (A), (B), (C), (D), (E)
- (2) (B), (C), (D), (E), (A)
- (3) (A), (C), (B), (E), (D)
- (4) (E), (A), (C), (D), (B)

Options :

- 212807130089. 1
- 212807130090. 2
- 212807130091. 3
- 212807130092. 4

Question Number : 994 Question Id : 21280732524 Question Type : MCQ Option Shuffling : No Is Question Mandatory : No Calculator : None Response Time : N.A Think Time : N.A Minimum Instruction Time : 0

Correct Marks : 5 Wrong Marks : 1

Question Key Details :

Key	Value
Comprehension	MCQ

Arrange the following in chronological order :

- (A) Berlin blockade by soviet union
- (B) Soviet intervention in Czechoslovakia
- (C) Soviet intervention in Hungary
- (D) Soviet intervention in Afghanistan
- (E) Disintegration of the Soviet union

Choose the correct answer from the options given below :

- (1) (A), (B), (D), (C), (E)
- (2) (A), (C), (B), (D), (E)
- (3) (C), (B), (D), (E), (A)
- (4) (D), (E), (A), (C), (B)

Options :

- 212807130093. 1
- 212807130094. 2
- 212807130095. 3
- 212807130096. 4

Question Number : 994 Question Id : 21280732524 Question Type : MCQ Option Shuffling : No Is Question Mandatory : No Calculator : None Response Time : N.A Think Time : N.A Minimum Instruction Time : 0

Correct Marks : 5 Wrong Marks : 1

Question Key Details :

Key	Value
Comprehension	MCQ

निम्नलिखित को कालक्रमानुसार व्यवस्थित कीजिए :

- (A) सोवियत संघ द्वारा बर्लिन की नाकाबंदी
- (B) सोवियत संघ द्वारा चेकोस्लावाकिया में हस्तक्षेप
- (C) सोवियत संघ द्वारा हंगरी में हस्तक्षेप
- (D) सोवियत संघ द्वारा अफगानिस्तान में हस्तक्षेप
- (E) सोवियत संघ का विघटन

नीचे दिए गए विकल्पों में से सही उत्तर का चयन कीजिए :

- (1) (A), (B), (D), (C), (E)
- (2) (A), (C), (B), (D), (E)
- (3) (C), (B), (D), (E), (A)
- (4) (D), (E), (A), (C), (B)

Options :

- 212807130093. 1
- 212807130094. 2
- 212807130095. 3
- 212807130096. 4

Question Number : 995 Question Id : 21280732525 Question Type : MCQ Option Shuffling : No Is Question Mandatory : No Calculator : None Response Time : N.A Think Time : N.A Minimum Instruction Time : 0

Correct Marks : 5 Wrong Marks : 1

Question Key Details :

Key	Value
Comprehension	MCQ

Who won the US Presidential election in 1992 and in 1996 :

- (1) William Jefferson (Bill) Clinton
- (2) George H.W. Bush
- (3) John F. Kennedy
- (4) Barack Obama

Options :

- 212807130097. 1
- 212807130098. 2
- 212807130099. 3
- 212807130100. 4

Question Number : 995 Question Id : 21280732525 Question Type : MCQ Option Shuffling : No Is Question Mandatory : No Calculator : None Response Time : N.A Think Time : N.A Minimum Instruction Time : 0

Correct Marks : 5 Wrong Marks : 1

Question Key Details :

Key	Value
Comprehension	MCQ

निम्नलिखित में से कौन 1992 और 1996 में अमेरिकी राष्ट्रपति पद पर चुनाव में विजयी रहे थे ?

- (1) विलियम जेफर्सन (बिल) क्लिंटन
- (2) जॉर्ज एच. डब्ल्यू. बुश
- (3) जॉन एफ. कैनेडी
- (4) बराक ओबामा

Options :

- 212807130097. 1

212807130098. 2
212807130099. 3
212807130100. 4

Question Number : 996 Question Id : 21280732526 Question Type : MCQ Option Shuffling : No Is Question Mandatory : No Calculator : None
Response Time : N.A Think Time : N.A Minimum Instruction Time : 0

Correct Marks : 5 Wrong Marks : 1

Question Key Details :

Key	Value
Comprehension	MCQ

Which one of the following statement related to Iraq invasion by US is incorrect ?

- (1) The US lost over 3000 military personnel in the war
- (2) The UN had given consent to invade Iraq
- (3) More than forty other countries joined the US led 'coalition of willing'
- (4) The invasion was to prevent Iraq from developing weapons of mass destruction

Options :

212807130101. 1
212807130102. 2
212807130103. 3
212807130104. 4

Question Number : 996 Question Id : 21280732526 Question Type : MCQ Option Shuffling : No Is Question Mandatory : No Calculator : None
Response Time : N.A Think Time : N.A Minimum Instruction Time : 0

Correct Marks : 5 Wrong Marks : 1

Question Key Details :

Key	Value
Comprehension	MCQ

निम्नलिखित में कौन-सा कथन इराक पर अमेरिकी हमले के बारे में गलत है ?

- (1) अमेरिका ने इस युद्ध में अपने 3000 से अधिक सैन्य कर्मियों की जानें गवां दीं
- (2) संयुक्त राष्ट्र ने इराक पर हमले के बारे में सहमति दी थी
- (3) अन्य चालीस से अधिक देश अमेरिका के नेतृत्व वाले 'इच्छुक देशों के गठबंधन' में सम्मिलित हुए
- (4) इस हमले का उद्देश्य इराक को जनसंहार के हथियारों को विकसित करने से रोकना था

Options :

212807130101. 1
212807130102. 2
212807130103. 3
212807130104. 4

Question Number : 997 Question Id : 21280732527 Question Type : MCQ Option Shuffling : No Is Question Mandatory : No Calculator : None
Response Time : N.A Think Time : N.A Minimum Instruction Time : 0

Correct Marks : 5 Wrong Marks : 1

Question Key Details :

Key	Value
Comprehension	MCQ

'The circle of twelve gold stars on' 'The European Union Flag refers to :

- (1) Co-operation
- (2) Solidarity and harmony
- (3) Perfection
- (4) Unity

Options :

212807130105. 1
212807130106. 2
212807130107. 3

Question Number : 997 Question Id : 21280732527 Question Type : MCQ Option Shuffling : No Is Question Mandatory : No Calculator : None
Response Time : N.A Think Time : N.A Minimum Instruction Time : 0

Correct Marks : 5 Wrong Marks : 1

Question Key Details :

Key	Value
Comprehension	MCQ

यूरोपियन यूनियन के ध्वज पर 'सोने के 12 सितारों का वृत्त' किसको संदर्भित करता है?

- (1) सहयोग
- (2) एकजुटता और सौहार्द
- (3) पूर्णता
- (4) एकता

Options :

212807130105. 1
212807130106. 2
212807130107. 3
212807130108. 4

Question Number : 998 Question Id : 21280732528 Question Type : MCQ Option Shuffling : No Is Question Mandatory : No Calculator : None
Response Time : N.A Think Time : N.A Minimum Instruction Time : 0

Correct Marks : 5 Wrong Marks : 1

Question Key Details :

Key	Value
Comprehension	MCQ

ASEAN was established in 1967 by signing :

- (1) Schengen Agreement
- (2) Treaty of Maastricht
- (3) Bangkok Declaration
- (4) Bandung Conference

Options :

212807130109. 1
212807130110. 2
212807130111. 3
212807130112. 4

Question Number : 998 Question Id : 21280732528 Question Type : MCQ Option Shuffling : No Is Question Mandatory : No Calculator : None
Response Time : N.A Think Time : N.A Minimum Instruction Time : 0

Correct Marks : 5 Wrong Marks : 1

Question Key Details :

Key	Value
Comprehension	MCQ

निम्नलिखित में से किस पर हस्ताक्षर कर आसियान (ASEAN) की 1967 में स्थापना की गई?

- (1) शेन्जेन समझौता
- (2) मास्ट्रिच संधि
- (3) बैंकांक घोषणा
- (4) बांडुंग सम्मेलन

Options :

212807130109. 1
212807130110. 2
212807130111. 3
212807130112. 4

Question Number : 999 Question Id : 21280732529 Question Type : MCQ Option Shuffling : No Is Question Mandatory : No Calculator : None
Response Time : N.A Think Time : N.A Minimum Instruction Time : 0

Correct Marks : 5 Wrong Marks : 1

Question Key Details :

Key	Value
Comprehension	MCQ

The Government of India and Bangladesh had differences over sharing of river water of :

- (1) Yamuna and Brahmaputra
- (2) Ganga and Brahmaputra
- (3) Ganga and Tungabhadra
- (4) Ganga and Yamuna

Options :

212807130113. 1

212807130114. 2

212807130115. 3

212807130116. 4

Question Number : 999 Question Id : 21280732529 Question Type : MCQ Option Shuffling : No Is Question Mandatory : No Calculator : None
Response Time : N.A Think Time : N.A Minimum Instruction Time : 0

Correct Marks : 5 Wrong Marks : 1

Question Key Details :

Key	Value
Comprehension	MCQ

भारत और बांग्लादेश की सरकारों के बीच किन नदियों के जल को साझा करने के बारे में मतभेद थे ?

- (1) यमुना और ब्रह्मपुत्र
- (2) गंगा और ब्रह्मपुत्र
- (3) गंगा और तुंगभद्र
- (4) गंगा और यमुना

Options :

212807130113. 1

212807130114. 2

212807130115. 3

212807130116. 4

Question Number : 1000 Question Id : 21280732530 Question Type : MCQ Option Shuffling : No Is Question Mandatory : No Calculator : None
Response Time : N.A Think Time : N.A Minimum Instruction Time : 0

Correct Marks : 5 Wrong Marks : 1

Question Key Details :

Key	Value
Comprehension	MCQ

The first WSF meeting was organised in :

- (1) Mumbai, 2004
- (2) China, 2001
- (3) Brazil, 2001
- (4) Britain 2004

Options :

212807130117. 1

212807130118. 2

212807130119. 3

212807130120. 4

Question Number : 1000 Question Id : 21280732530 Question Type : MCQ Option Shuffling : No Is Question Mandatory : No Calculator : None
Response Time : N.A Think Time : N.A Minimum Instruction Time : 0

Correct Marks : 5 Wrong Marks : 1

Question Key Details :

Key	Value
Comprehension	MCQ

WSF की प्रथम मीटिंग आयोजित की गई _____ ।

- (1) मुंबई 2004
- (2) चीन 2001
- (3) ब्राजील 2001
- (4) ब्रिटेन 2004

Options :

212807130117. 1
212807130118. 2
212807130119. 3
212807130120. 4

Question Number : 1001 Question Id : 21280732531 Question Type : MCQ Option Shuffling : No Is Question Mandatory : No Calculator : None
Response Time : N.A Think Time : N.A Minimum Instruction Time : 0

Correct Marks : 5 Wrong Marks : 1

Question Key Details :

Key	Value
Comprehension	MCQ

Expand LTTE :

- (1) Liberty Tigers of Tamil Eilam
- (2) Liberation Telugu of Tamil Eilam
- (3) Liberation Tigers of Tamil Eilam
- (4) Liberation Tigers of Telugu Eilam

Options :

212807130121. 1
212807130122. 2
212807130123. 3
212807130124. 4

Question Number : 1001 Question Id : 21280732531 Question Type : MCQ Option Shuffling : No Is Question Mandatory : No Calculator : None
Response Time : N.A Think Time : N.A Minimum Instruction Time : 0

Correct Marks : 5 Wrong Marks : 1

Question Key Details :

Key	Value
Comprehension	MCQ

लिट्टे (LTTE) का पूरा नाम बताइए ?

- (1) लिबर्टी टाइगर्स ऑफ तमिल ईलम
- (2) लिबरेशन तेलुगु ऑफ तमिल ईलम
- (3) लिबरेशन टाइगर्स ऑफ तमिल ईलम
- (4) लिबरेशन टाइगर्स ऑफ तेलुगु ईलम

Options :

212807130121. 1
212807130122. 2
212807130123. 3
212807130124. 4

Question Number : 1002 Question Id : 21280732532 Question Type : MCQ Option Shuffling : No Is Question Mandatory : No Calculator : None Response Time : N.A Think Time : N.A Minimum Instruction Time : 0

Correct Marks : 5 Wrong Marks : 1

Question Key Details :

Key	Value
Comprehension	MCQ

In which year was the UNICEF established ?

- (1) 1945
- (2) 1946
- (3) 1947
- (4) 1948

Options :

212807130125. 1
212807130126. 2
212807130127. 3
212807130128. 4

Question Number : 1002 Question Id : 21280732532 Question Type : MCQ Option Shuffling : No Is Question Mandatory : No Calculator : None Response Time : N.A Think Time : N.A Minimum Instruction Time : 0

Correct Marks : 5 Wrong Marks : 1

Question Key Details :

Key	Value
Comprehension	MCQ

निम्नलिखित में से किस वर्ष में यूनिसेफ (UNICEF) की स्थापना की गई?

- (1) 1945
- (2) 1946
- (3) 1947
- (4) 1948

Options :

212807130125. 1
212807130126. 2
212807130127. 3
212807130128. 4

Question Number : 1003 Question Id : 21280732533 Question Type : MCQ Option Shuffling : No Is Question Mandatory : No Calculator : None Response Time : N.A Think Time : N.A Minimum Instruction Time : 0

Correct Marks : 5 Wrong Marks : 1

Question Key Details :

Key	Value
Comprehension	MCQ

Which one of the following is an **incorrect** option related to decisions making UN is more relevant in the changing scenario at its 60th anniversary in 2005.

- (1) Establishment of a Human Right Council
- (2) Agreements to achieve Millennium Development Goals
- (3) Creation of a Democracy fund
- (4) An agreement to continue the Trusteeship council

Options :

212807130129. 1
212807130130. 2
212807130131. 3
212807130132. 4

Question Number : 1003 Question Id : 21280732533 Question Type : MCQ Option Shuffling : No Is Question Mandatory : No Calculator : None Response Time : N.A Think Time : N.A Minimum Instruction Time : 0

Correct Marks : 5 Wrong Marks : 1

Question Key Details :

Key	Value
Comprehension	MCQ

वर्ष 2005 में संयुक्त राष्ट्र की 60वीं वर्षगांठ पर बदलते परिदृश्य में निर्णयन में उसके अधिक प्रासंगिक बनने से संबंधित निम्नलिखित में से कौन-सा गलत विकल्प है ?

- (1) मानव अधिकार परिषद की स्थापना
- (2) सहस्राब्दी विकास लक्ष्यों की प्राप्ति पर समझौते
- (3) लोकतंत्र कोष का सृजन
- (4) ट्रस्टीशिप काउंसिल (न्यासित परिषद) को जारी रखने पर समझौता

Options :

212807130129. 1
212807130130. 2
212807130131. 3
212807130132. 4

Question Number : 1004 Question Id : 21280732534 Question Type : MCQ Option Shuffling : No Is Question Mandatory : No Calculator : None
Response Time : N.A Think Time : N.A Minimum Instruction Time : 0

Correct Marks : 5 Wrong Marks : 1

Question Key Details :

Key	Value
Comprehension	MCQ

Match List - I with List - II.

List - I

(Treaties)

- (A) SALT
(B) START
(C) ABM
(D) NPT

List - II

(Full Form)

- (I) The Strategic Arms Reduction Treaty
(II) The Anti-Ballistic Missile Treaty
(III) The Nuclear Non-Proliferation Treaty
(IV) The Strategic Arms Limitation Treaty

Choose the correct answer from the options given below :

- (1) (A)-(IV), (B)-(I), (C)-(II), (D)-(III)
- (2) (A)-(I), (B)-(II), (C)-(IV), (D)-(III)
- (3) (A)-(III), (B)-(IV), (C)-(II), (D)-(I)
- (4) (A)-(IV), (B)-(III), (C)-(II), (D)-(I)

Options :

212807130133. 1
212807130134. 2
212807130135. 3
212807130136. 4

Question Number : 1004 Question Id : 21280732534 Question Type : MCQ Option Shuffling : No Is Question Mandatory : No Calculator : None
Response Time : N.A Think Time : N.A Minimum Instruction Time : 0

Correct Marks : 5 Wrong Marks : 1

Question Key Details :

Key	Value
Comprehension	MCQ

सूची-I से सूची-II का मिलान कीजिए :

सूची-I

- (A) साल्ट (SALT)
- (B) स्टार्ट (START)
- (C) ए. बी. एम. (ABM)
- (D) एन. पी. टी. (NPT)

सूची-II

- (I) सामरिक शस्त्र कटौती संधि (दि स्ट्रेटिजिक आर्म्स रिडक्शन ट्रीटी)
- (II) बैलास्टिक प्रक्षेपास्त्र-विरोधी संधि (द एंटी-बैलास्टिक मिसाइल ट्रीटी)
- (III) परमाणु अप्रसार संधि (न्यूक्लियर नॉन प्रोलिफरेशन ट्रीटी)
- (IV) सामरिक शस्त्र परिसीमन संधि (द स्ट्रेटिजिक आर्म्स लिमिटेशन ट्रीटी)

नीचे दिए गए विकल्पों में से सही उत्तर का चयन कीजिए :

- (1) (A)-(IV), (B)-(I), (C)-(II), (D)-(III)
- (2) (A)-(I), (B)-(II), (C)-(IV), (D)-(III)
- (3) (A)-(III), (B)-(IV), (C)-(II), (D)-(I)
- (4) (A)-(IV), (B)-(III), (C)-(II), (D)-(I)

Options :

- 212807130133. 1
- 212807130134. 2
- 212807130135. 3
- 212807130136. 4

Question Number : 1005 Question Id : 21280732535 Question Type : MCQ Option Shuffling : No Is Question Mandatory : No Calculator : None Response Time : N.A Think Time : N.A Minimum Instruction Time : 0

Correct Marks : 5 Wrong Marks : 1

Question Key Details :

Key	Value
Comprehension	MCQ

Disarmament requires all the states to give up :

- (1) Violence
- (2) Arms Control
- (3) Weapons
- (4) Internal War

Options :

- 212807130137. 1
- 212807130138. 2
- 212807130139. 3
- 212807130140. 4

Question Number : 1005 Question Id : 21280732535 Question Type : MCQ Option Shuffling : No Is Question Mandatory : No Calculator : None Response Time : N.A Think Time : N.A Minimum Instruction Time : 0

Correct Marks : 5 Wrong Marks : 1

Question Key Details :

Key	Value
Comprehension	MCQ

विसैन्यीकरण के लिए सभी राज्यों (देशों) द्वारा क्या छोड़ देना आवश्यक है?

- (1) हिंसा
- (2) शस्त्र नियंत्रण
- (3) हथियार
- (4) आंतरिक युद्ध

Options :

- 212807130137. 1

212807130138. 2
212807130139. 3
212807130140. 4

Question Number : 1006 Question Id : 21280732536 Question Type : MCQ Option Shuffling : No Is Question Mandatory : No Calculator : None
Response Time : N.A Think Time : N.A Minimum Instruction Time : 0

Correct Marks : 5 Wrong Marks : 1

Question Key Details :

Key	Value
Comprehension	MCQ

Match List - I with List - II.

List - I	List - II
Year	Agreement Signed
(A) 1959	(I) Bruntland Report
(B) 1987	(II) Montreal Protocol
(C) 1991	(III) Antarctic Treaty
(D) 1987	(IV) Antarctic Environment protocol

Choose the correct answer from the options given below :

- (1) (A)-(II), (B)-(III), (C)-(IV), (D)-(I)
- (2) (A)-(IV), (B)-(III), (C)-(II), (D)-(I)
- (3) (A)-(I), (B)-(III), (C)-(II), (D)-(IV)
- (4) (A)-(III), (B)-(I), (C)-(IV), (D)-(II)

Options :

212807130141. 1
212807130142. 2
212807130143. 3
212807130144. 4

Question Number : 1006 Question Id : 21280732536 Question Type : MCQ Option Shuffling : No Is Question Mandatory : No Calculator : None
Response Time : N.A Think Time : N.A Minimum Instruction Time : 0

Correct Marks : 5 Wrong Marks : 1

Question Key Details :

Key	Value
Comprehension	MCQ

सूची-I से सूची-II का मिलान कीजिए :

सूची-I	सूची-II
वर्ष	समझौते पर हस्ताक्षर किए गए
(A) 1959	(I) बर्टलैंड रिपोर्ट
(B) 1987	(II) मॉन्ट्रियल प्रोटोकॉल
(C) 1991	(III) अंटार्कटिक संधि
(D) 1987	(IV) अंटार्कटिक पर्यावरणीय प्रोटोकॉल

नीचे दिए गए विकल्पों में से सही उत्तर का चयन कीजिए :

- (1) (A)-(II), (B)-(III), (C)-(IV), (D)-(I)
- (2) (A)-(IV), (B)-(III), (C)-(II), (D)-(I)
- (3) (A)-(I), (B)-(III), (C)-(II), (D)-(IV)
- (4) (A)-(III), (B)-(I), (C)-(IV), (D)-(II)

Options :

212807130141. 1
212807130142. 2
212807130143. 3
212807130144. 4

Question Number : 1007 Question Id : 21280732537 Question Type : MCQ Option Shuffling : No Is Question Mandatory : No Calculator : None
Response Time : N.A Think Time : N.A Minimum Instruction Time : 0

Correct Marks : 5 Wrong Marks : 1

Question Key Details :

Key	Value
Comprehension	MCQ

Match List - I with List - II.

List - I

- (A) UNEP
(B) The club of Rome
(C) Rio de Janerio
(D) Brundtland Report

List - II

- (I) Brazil
(II) United Nations Environment Programme
(III) 1987
(IV) A Global Think Tank

Choose the correct answer from the options given below :

- (1) (A)-(IV), (B)-(III), (C)-(I), (D)-(II)
(2) (A)-(II), (B)-(IV), (C)-(III), (D)-(I)
(3) (A)-(I), (B)-(IV), (C)-(II), (D)-(III)
(4) (A)-(II), (B)-(IV), (C)-(I), (D)-(III)

Options :

212807130145. 1
212807130146. 2
212807130147. 3
212807130148. 4

Question Number : 1007 Question Id : 21280732537 Question Type : MCQ Option Shuffling : No Is Question Mandatory : No Calculator : None
Response Time : N.A Think Time : N.A Minimum Instruction Time : 0

Correct Marks : 5 Wrong Marks : 1

Question Key Details :

Key	Value
Comprehension	MCQ

सूची-I से सूची-II का मिलान कीजिए :

सूची-I

- (A) यू. एन. ई. पी.
(B) द क्लब ऑफ रोम
(C) रियो डि जनेरियो
(D) बर्टलैंड रिपोर्ट

सूची-II

- (I) ब्राज़ील
(II) संयुक्त राष्ट्र पर्यावरण कार्यक्रम
(III) 1987
(IV) वैश्विक थिंक टैंक

नीचे दिए गए विकल्पों में से सही उत्तर का चयन कीजिए :

- (1) (A)-(IV), (B)-(III), (C)-(I), (D)-(II)
(2) (A)-(II), (B)-(IV), (C)-(III), (D)-(I)
(3) (A)-(I), (B)-(IV), (C)-(II), (D)-(III)
(4) (A)-(II), (B)-(IV), (C)-(I), (D)-(III)

Options :

212807130145. 1

212807130146. 2
212807130147. 3
212807130148. 4

Question Number : 1008 Question Id : 21280732538 Question Type : MCQ Option Shuffling : No Is Question Mandatory : No Calculator : None
Response Time : N.A Think Time : N.A Minimum Instruction Time : 0

Correct Marks : 5 Wrong Marks : 1

Question Key Details :

Key	Value
Comprehension	MCQ

During the colonial period India became an :

- (1) Exporter of finished goods
- (2) Exporter of primary goods and raw materials and consumer of finished goods
- (3) Exporter of finished goods and importer of primary goods and raw materials
- (4) Importer of primary goods and raw materials

Options :

212807130149. 1
212807130150. 2
212807130151. 3
212807130152. 4

Question Number : 1008 Question Id : 21280732538 Question Type : MCQ Option Shuffling : No Is Question Mandatory : No Calculator : None
Response Time : N.A Think Time : N.A Minimum Instruction Time : 0

Correct Marks : 5 Wrong Marks : 1

Question Key Details :

Key	Value
Comprehension	MCQ

औपनिवेशिक काल के दौरान भारत क्या बना था ?

- (1) तैयार वस्तुओं का निर्यातक
- (2) प्राथमिक वस्तुओं और कच्चे माल का निर्यातक तथा तैयार वस्तुओं का उपभोक्ता
- (3) तैयार वस्तुओं का निर्यातक और प्राथमिक वस्तुओं एवं कच्चे माल का आयातक
- (4) प्राथमिक वस्तुओं और कच्चे माल का आयातक

Options :

212807130149. 1
212807130150. 2
212807130151. 3
212807130152. 4

Question Number : 1009 Question Id : 21280732539 Question Type : MCQ Option Shuffling : No Is Question Mandatory : No Calculator : None
Response Time : N.A Think Time : N.A Minimum Instruction Time : 0

Correct Marks : 5 Wrong Marks : 1

Question Key Details :

Key	Value
Comprehension	MCQ

Where and in which year, at the WTO ministerial meeting there were widespread, protests alleging unfair trading practices by the economically powerful states

- (1) 1991, Hague
- (2) 1997, Geneva
- (3) 1999, Seattle
- (4) 1996, Newyork

Options :

212807130153. 1
212807130154. 2

212807130155. 3
212807130156. 4

Question Number : 1009 Question Id : 21280732539 Question Type : MCQ Option Shuffling : No Is Question Mandatory : No Calculator : None
Response Time : N.A Think Time : N.A Minimum Instruction Time : 0
Correct Marks : 5 Wrong Marks : 1

Question Key Details :

Key	Value
Comprehension	MCQ

कहाँ और किस वर्ष में डब्ल्यू. टी. ओ. की मंत्री स्तरीय बैठक के समय पर व्यापक विरोध-प्रदर्शन हुए थे, जिनमें आर्थिक रूप से शक्तिशाली राज्यों (देशों) पर अनुचित व्यापार तौर-तरीके अपनाने का आरोप लगाया गया था ?

- (1) 1991, हेग
- (2) 1997, जिनीवा
- (3) 1999, सिएटल
- (4) 1996, न्यूयार्क

Options :

212807130153. 1
212807130154. 2
212807130155. 3
212807130156. 4

Question Number : 1010 Question Id : 21280732540 Question Type : MCQ Option Shuffling : No Is Question Mandatory : No Calculator : None
Response Time : N.A Think Time : N.A Minimum Instruction Time : 0
Correct Marks : 5 Wrong Marks : 1

Question Key Details :

Key	Value
Comprehension	MCQ

In which year the Atlantic charter was signed by the US President 'Franklin D.Roosevelt' and UK prime minister Winston Churchill ?

- (1) August 1941
- (2) January 1942
- (3) December 1942
- (4) April 1943

Options :

212807130157. 1
212807130158. 2
212807130159. 3
212807130160. 4

Question Number : 1010 Question Id : 21280732540 Question Type : MCQ Option Shuffling : No Is Question Mandatory : No Calculator : None
Response Time : N.A Think Time : N.A Minimum Instruction Time : 0
Correct Marks : 5 Wrong Marks : 1

Question Key Details :

Key	Value
Comprehension	MCQ

निम्नलिखित में से किस वर्ष में अमेरिकी राष्ट्रपति फ्रैंकलिन डी. रूजवेल्ट और यू. के. के प्रधानमंत्री विंस्टन चर्चिल ने अटलॉटिक चार्टर पर हस्ताक्षर किए थे ?

- (1) अगस्त 1941
- (2) जनवरी 1942
- (3) दिसंबर 1942
- (4) अप्रैल 1943

Options :

212807130157. 1
212807130158. 2
212807130159. 3
212807130160. 4

Sub-Section Number : 2
Sub-Section Id : 2128072545
Question Shuffling Allowed : No
Is Section Default? : null

Question Number : 1011 Question Id : 21280732541 Question Type : MCQ Option Shuffling : No Is Question Mandatory : No Calculator : None
Response Time : N.A Think Time : N.A Minimum Instruction Time : 0

Correct Marks : 5 Wrong Marks : 1

Question Key Details :

Key	Value
Comprehension	Comp1

Read the following passage carefully and answer the question that follow :

The Cold War threatened to divide the world into two allinces. Under these circumstances, many of the newly independent countries, after gaining their independence from the colonial powers such as Britain and France, were worried that they would lose their freedom as soon as they gained formal independence. Cracks and splits within the western and eastern allinces were quick to appear headed by the USA and the USSR respectively. Communist China quarreled with the USSR towards the late 1950s, and, in 1969, they fought a brief war over a territorial dispute.

Which country had a brief war with the USSR for territory ?

- (1) China
- (2) Japan
- (3) USA
- (4) North Korea

Options :

212807130161. 1
212807130162. 2
212807130163. 3
212807130164. 4

Question Number : 1011 Question Id : 21280732541 Question Type : MCQ Option Shuffling : No Is Question Mandatory : No Calculator : None
Response Time : N.A Think Time : N.A Minimum Instruction Time : 0

Correct Marks : 5 Wrong Marks : 1

Question Key Details :

Key	Value
Comprehension	Comp1

निम्नलिखित गद्यांश को ध्यानपूर्वक पढ़िए और नीचे दिए गए प्रश्न का उत्तर दीजिए :

शीत युद्ध ने दुनिया को दो गठबंधनों में विभाजित करने की धमकी दी। इन परिस्थितियों में, ब्रिटेन और फ्रांस जैसी औपनिवेशिक शक्तियों से अपनी स्वतंत्रता प्राप्त करने के बाद, कई नए स्वतंत्र देश इस बात से चिंतित थे कि औपचारिक स्वतंत्रता प्राप्त करते ही वे अपनी स्वतंत्रता खो देंगे। पश्चिमी और पूर्वी गठबंधनों के भीतर दरारें और विभाजन क्रमशः संयुक्त राज्य अमेरिका और यूएसएसआर के नेतृत्व में दिखाई देने लगे। साम्यावादी चीन ने 1950 के दशक के अंत में यूएसएसआर के साथ झगड़ा किया और 1969 में, उन्होंने एक क्षेत्रीय विवाद पर एक संक्षिप्त युद्ध लड़ा।

किस देश का क्षेत्र के लिए USSR के साथ संक्षिप्त युद्ध हुआ था ?

- (1) अमेरिका
- (2) जापान
- (3) चीन
- (4) उत्तर कोरिया

Options :

212807130161. 1
212807130162. 2
212807130163. 3
212807130164. 4

Question Number : 1012 Question Id : 21280732542 Question Type : MCQ Option Shuffling : No Is Question Mandatory : No Calculator : None Response Time : N.A Think Time : N.A Minimum Instruction Time : 0

Correct Marks : 5 Wrong Marks : 1

Question Key Details :

Key	Value
Comprehension	Compl

Read the following passage carefully and answer the question that follow :

The Cold War threatened to divide the world into two allinces. Under these circumstances, many of the newly independent countries, after gaining their independence from the colonial powers such as Britain and France, were worried that they would lose their freedom as soon as they gained formal independence. Cracks and splits within the western and eastern allinces were quick to appear headed by the USA and the USSR respectively. Communist China quarreled with the USSR towards the late 1950s, and, in 1969, they fought a brief war over a territorial dispute.

Which former superpower headed the eastern alliances ?

- (1) UK
- (2) Greece
- (3) USA
- (4) USSR

Options :

212807130165. 1
212807130166. 2
212807130167. 3
212807130168. 4

Question Number : 1012 Question Id : 21280732542 Question Type : MCQ Option Shuffling : No Is Question Mandatory : No Calculator : None Response Time : N.A Think Time : N.A Minimum Instruction Time : 0

Correct Marks : 5 Wrong Marks : 1

Question Key Details :

Key	Value
Comprehension	Compl

निम्नलिखित गद्यांश को ध्यानपूर्वक पढ़िए और नीचे दिए गए प्रश्न का उत्तर दीजिए :

शीत युद्ध ने दुनिया को दो गठबंधनों में विभाजित करने की धमकी दी। इन परिस्थितियों में, ब्रिटेन और फ्रांस जैसी औपनिवेशिक शक्तियों से अपनी स्वतंत्रता प्राप्त करने के बाद, कई नए स्वतंत्र देश इस बात से चिंतित थे कि औपचारिक स्वतंत्रता प्राप्त करते ही वे अपनी स्वतंत्रता खो देंगे। पश्चिमी और पूर्वी गठबंधनों के भीतर दरारें और विभाजन क्रमशः संयुक्त राज्य अमेरिका और यूएसएसआर के नेतृत्व में दिखाई देने लगे। साम्यावादी चीन ने 1950 के दशक के अंत में यूएसएसआर के साथ झगड़ा किया और 1969 में, उन्होंने एक क्षेत्रीय विवाद पर एक संक्षिप्त युद्ध लड़ा।

किस पूर्व महाशक्ति ने पूर्वी गठबंधनों का नेतृत्व किया ?

- (1) यूके
- (2) यूनान
- (3) अमेरिका
- (4) सोवियत संघ

Options :

212807130165. 1
212807130166. 2
212807130167. 3
212807130168. 4

Question Number : 1013 Question Id : 21280732543 Question Type : MCQ Option Shuffling : No Is Question Mandatory : No Calculator : None Response Time : N.A Think Time : N.A Minimum Instruction Time : 0

Correct Marks : 5 Wrong Marks : 1

Question Key Details :

Key	Value
Comprehension	Compl

Read the following passage carefully and answer the question that follow :

The Cold War threatened to divide the world into two allinces. Under these circumstances, many of the newly independent countries, after gaining their independence from the colonial powers such as Britain and France, were worried that they would lose their freedom as soon as they gained formal independence. Cracks and splits within the western and eastern allinces were quick to appear headed by the USA and the USSR respectively. Communist China quarreled with the USSR towards the late 1950s, and, in 1969, they fought a brief war over a territorial dispute.

Which event of the world has threatened to divide the world into two alliances ?

- (1) Arenas
- (2) Cold War
- (3) Iraq invasion
- (4) Cuban Missile Crisis

Options :

212807130169. 1
212807130170. 2
212807130171. 3
212807130172. 4

Question Number : 1013 Question Id : 21280732543 Question Type : MCQ Option Shuffling : No Is Question Mandatory : No Calculator : None Response Time : N.A Think Time : N.A Minimum Instruction Time : 0

Correct Marks : 5 Wrong Marks : 1

Question Key Details :

Key	Value
Comprehension	Compl

निम्नलिखित गद्यांश को ध्यानपूर्वक पढ़िए और नीचे दिए गए प्रश्न का उत्तर दीजिए :

शीत युद्ध ने दुनिया को दो गठबंधनों में विभाजित करने की धमकी दी। इन परिस्थितियों में, ब्रिटेन और फ्रांस जैसी औपनिवेशिक शक्तियों से अपनी स्वतंत्रता प्राप्त करने के बाद, कई नए स्वतंत्र देश इस बात से चिंतित थे कि औपचारिक स्वतंत्रता प्राप्त करते ही वे अपनी स्वतंत्रता खो देंगे। पश्चिमी और पूर्वी गठबंधनों के भीतर दरारें और विभाजन क्रमशः संयुक्त राज्य अमेरिका और यूएसएसआर के नेतृत्व में दिखाई देने लगे। साम्यवादी चीन ने 1950 के दशक के अंत में यूएसएसआर के साथ झगड़ा किया और 1969 में, उन्होंने एक क्षेत्रीय विवाद पर एक संक्षिप्त युद्ध लड़ा।

विश्व की किस घटना ने विश्व को दो गठबंधनों में विभाजित करने की धमकी दी है?

- (1) एरेनास
- (2) शीत युद्ध
- (3) इराक आक्रमण
- (4) क्यूब मिसाइल क्राइसिस

Options :

212807130169. 1
212807130170. 2
212807130171. 3
212807130172. 4

Question Number : 1014 Question Id : 21280732544 Question Type : MCQ Option Shuffling : No Is Question Mandatory : No Calculator : None Response Time : N.A Think Time : N.A Minimum Instruction Time : 0

Correct Marks : 5 Wrong Marks : 1

Question Key Details :

Key	Value
Comprehension	Compl

Read the following passage carefully and answer the question that follow :

The Cold War threatened to divide the world into two allinces. Under these circumstances, many of the newly independent countries, after gaining their independence from the colonial powers such as Britain and France, were worried that they would lose their freedom as soon as they gained formal independence. Cracks and splits within the western and eastern allinces were quick to appear headed by the USA and the USSR respectively. Communist China quarreled with the USSR towards the late 1950s, and, in 1969, they fought a brief war over a territorial dispute.

Name the two countries that had ruled over the third world countries

- (1) Britain and France
- (2) Australia and Russia
- (3) Russia and the USA
- (4) Poland and Belgium

Options :

212807130173. 1
212807130174. 2
212807130175. 3
212807130176. 4

Question Number : 1014 Question Id : 21280732544 Question Type : MCQ Option Shuffling : No Is Question Mandatory : No Calculator : None Response Time : N.A Think Time : N.A Minimum Instruction Time : 0

Correct Marks : 5 Wrong Marks : 1

Question Key Details :

Key	Value
Comprehension	Compl

निम्नलिखित गद्यांश को ध्यानपूर्वक पढ़िए और नीचे दिए गए प्रश्न का उत्तर दीजिए :

शीत युद्ध ने दुनिया को दो गठबंधनों में विभाजित करने की धमकी दी। इन परिस्थितियों में, ब्रिटेन और फ्रांस जैसी औपनिवेशिक शक्तियों से अपनी स्वतंत्रता प्राप्त करने के बाद, कई नए स्वतंत्र देश इस बात से चिंतित थे कि औपचारिक स्वतंत्रता प्राप्त करते ही वे अपनी स्वतंत्रता खो देंगे। पश्चिमी और पूर्वी गठबंधनों के भीतर दरारें और विभाजन क्रमशः संयुक्त राज्य अमेरिका और यूएसएसआर के नेतृत्व में दिखाई देने लगे। साम्यावादी चीन ने 1950 के दशक के अंत में यूएसएसआर के साथ झगड़ा किया और 1969 में, उन्होंने एक क्षेत्रीय विवाद पर एक संक्षिप्त युद्ध लड़ा।

उन दो दशकों के नाम लिखिए जिन्होंने तीसरी दुनिया के देशों पर शासन किया था।

- (1) ब्रिटेन और फ्रांस
- (2) ऑस्ट्रेलिया और रूस
- (3) रूस और अमरीका
- (4) पोलैंड और बेल्जियम

Options :

212807130173. 1
212807130174. 2
212807130175. 3
212807130176. 4

Question Number : 1015 Question Id : 21280732545 Question Type : MCQ Option Shuffling : No Is Question Mandatory : No Calculator : None Response Time : N.A Think Time : N.A Minimum Instruction Time : 0

Correct Marks : 5 Wrong Marks : 1

Question Key Details :

Key	Value
Comprehension	Compl

Read the following passage carefully and answer the question that follow :

The Cold War threatened to divide the world into two allinces. Under these circumstances, many of the newly independent countries, after gaining their independence from the colonial powers such as Britain and France, were worried that they would lose their freedom as soon as they gained formal independence. Cracks and splits within the western and eastern allinces were quick to appear headed by the USA and the USSR respectively. Communist China quarreled with the USSR towards the late 1950s, and, in 1969, they fought a brief war over a territorial dispute.

The Cold War threatened to divide the world in to _____ allinces

- (1) 4
- (2) 6
- (3) 2
- (4) 7

Options :

212807130177. 1
212807130178. 2
212807130179. 3
212807130180. 4

Question Number : 1015 Question Id : 21280732545 Question Type : MCQ Option Shuffling : No Is Question Mandatory : No Calculator : None Response Time : N.A Think Time : N.A Minimum Instruction Time : 0

Correct Marks : 5 Wrong Marks : 1

Question Key Details :

Key	Value
Comprehension	Compl

निम्नलिखित गद्यांश को ध्यानपूर्वक पढ़िए और नीचे दिए गए प्रश्न का उत्तर दीजिए :

शीत युद्ध ने दुनिया को दो गठबंधनों में विभाजित करने की धमकी दी। इन परिस्थितियों में, ब्रिटेन और फ्रांस जैसी औपनिवेशिक शक्तियों से अपनी स्वतंत्रता प्राप्त करने के बाद, कई नए स्वतंत्र देश इस बात से चिंतित थे कि औपचारिक स्वतंत्रता प्राप्त करते ही वे अपनी स्वतंत्रता खो देंगे। पश्चिमी और पूर्वी गठबंधनों के भीतर दरारें और विभाजन क्रमशः संयुक्त राज्य अमेरिका और यूएसएसआर के नेतृत्व में दिखाई देने लगे। साम्यवादी चीन ने 1950 के दशक के अंत में यूएसएसआर के साथ झगड़ा किया और 1969 में, उन्होंने एक क्षेत्रीय विवाद पर एक संक्षिप्त युद्ध लड़ा।

शीत युद्ध ने दुनिया को _____ गठबंधन में विभाजित करने की धमकी दी

- (1) 4
- (2) 6
- (3) 2
- (4) 7

Options :

212807130177. 1
212807130178. 2
212807130179. 3
212807130180. 4

Sub-Section Number : 3
Sub-Section Id : 2128072546
Question Shuffling Allowed : No
Is Section Default? : null

Question Number : 1016 Question Id : 21280732546 Question Type : MCQ Option Shuffling : No Is Question Mandatory : No Calculator : None
Response Time : N.A Think Time : N.A Minimum Instruction Time : 0

Correct Marks : 5 Wrong Marks : 1

Question Key Details :

Key	Value
Comprehension	Comp2

Read the paragraph given below and answer, the following question :

As in the USSR, the planning commission of India opted for Five Year Plans (FYP). The idea is very simple the government of India prepares a document that has a plan for all its income and expenditure for the next five years. Accordingly the budget of the central and all the state governments is divided into two parts 'non-plan' budget that is spent on routine items on a yearly basis and 'plan' budget that is spent on a five year basis as per the priorities fixed by the plan. A five year plan has the advantage of permitting the government to focus on the larger picture and make long term intervention in the economy.

The Planning Commission has been replaced by :

- (1) NITI Aayog
- (2) CVC
- (3) CWC
- (4) CIC

Options :

212807130181. 1
212807130182. 2
212807130183. 3
212807130184. 4

Question Number : 1016 Question Id : 21280732546 Question Type : MCQ Option Shuffling : No Is Question Mandatory : No Calculator : None
Response Time : N.A Think Time : N.A Minimum Instruction Time : 0

Correct Marks : 5 Wrong Marks : 1

Question Key Details :

Key	Value
Comprehension	Comp2

निम्नलिखित गद्यांश को सावधानीपूर्वक पढ़ें और इसके बाद दिए गए प्रश्न का उत्तर दीजिए।

जैसाकि यू. एस. एस. आर. में है, भारतीय योजना आयोग ने पंचवर्षीय योजनाओं (एफ. वाई. पी.) को चुना। यह विचार अत्यधिक सरल था: भारत सरकार एक उस दस्तावेज को तैयार करती है, जिसमें अगले पाँच वर्षों के लिए उसकी समस्त आय और व्यय की योजना प्रस्तुत की जाती है। तदनु रूप, केन्द्र और राज्य सरकारों के बजट को दो भागों में विभाजित किया जाता है: 'गैर-योजना' बजट, जिसका वार्षिक आधार पर नैतिक वस्तुओं पर व्यय किया जाता है और 'योजना' बजट, जिसका योजना द्वारा निर्धारित प्राथमिकताओं के अनुसार पंचवर्षीय आधार पर व्यय किया जाता है। पंचवर्षीय योजना का लाभ यह है कि इससे सरकार बृहत्तर रूप से ध्यान केन्द्रित कर पाती है और अर्थव्यवस्था में दीर्घकालिक पहल कर सकती है।

योजना आयोग को किसके द्वारा प्रतिस्थापित किया गया है?

- (1) नीति आयोग
- (2) सी. वी. सी.
- (3) सी. डब्ल्यू. सी.
- (4) सी. आई. सी.

Options :

212807130181. 1
212807130182. 2
212807130183. 3
212807130184. 4

Question Number : 1017 Question Id : 21280732547 Question Type : MCQ Option Shuffling : No Is Question Mandatory : No Calculator : None Response Time : N.A Think Time : N.A Minimum Instruction Time : 0

Correct Marks : 5 Wrong Marks : 1

Question Key Details :

Key	Value
Comprehension	Comp2

Read the paragraph given below and answer, the following question :

As in the USSR, the planning commission of India opted for Five Year Plans (FYP). The idea is very simple the government of India prepares a document that has a plan for all its income and expenditure for the next five years. Accordingly the budget of the central and all the state governments is divided into two parts 'non-plan' budget that is spent on routine items on a yearly basis and 'plan' budget that is spent on a five year basis as per the priorities fixed by the plan. A five year plan has the advantage of permitting the government to focus on the larger picture and make long term intervention in the economy.

'PLAN BUDGET' is spent on a :

- (1) Yearly basis
- (2) Five year basis
- (3) Three year basis
- (4) Two year basis

Options :

212807130185. 1
212807130186. 2
212807130187. 3
212807130188. 4

Question Number : 1017 Question Id : 21280732547 Question Type : MCQ Option Shuffling : No Is Question Mandatory : No Calculator : None Response Time : N.A Think Time : N.A Minimum Instruction Time : 0

Correct Marks : 5 Wrong Marks : 1

Question Key Details :

Key	Value
Comprehension	Comp2

निम्नलिखित गद्यांश को सावधानीपूर्वक पढ़ें और इसके बाद दिए गए प्रश्न का उत्तर दीजिए।

जैसाकि यू. एस. एस. आर. में है, भारतीय योजना आयोग ने पंचवर्षीय योजनाओं (एफ. वाई. पी.) को चुना। यह विचार अत्यधिक सरल था: भारत सरकार एक उस दस्तावेज को तैयार करती है, जिसमें अगले पाँच वर्षों के लिए उसकी समस्त आय और व्यय की योजना प्रस्तुत की जाती है। तदनुरूप, केन्द्र और राज्य सरकारों के बजट को दो भागों में विभाजित किया जाता है: 'गैर-योजना' बजट, जिसका वार्षिक आधार पर नैतिक वस्तुओं पर व्यय किया जाता है और 'योजना' बजट, जिसका योजना द्वारा निर्धारित प्राथमिकताओं के अनुसार पंचवर्षीय आधार पर व्यय किया जाता है। पंचवर्षीय योजना का लाभ यह है कि इससे सरकार बृहत्तर रूप से ध्यान केन्द्रित कर पाती है और अर्थव्यवस्था में दीर्घकालिक पहल कर सकती है।

'योजना-बजट' किसके आधार पर व्यय किया जाता है?

- (1) वार्षिक आधार पर
- (2) पंचवर्षीय आधार पर
- (3) तीन वर्षीय आधार पर
- (4) द्विवर्षीय आधार पर

Options :

212807130185. 1
212807130186. 2
212807130187. 3
212807130188. 4

Question Number : 1018 Question Id : 21280732548 Question Type : MCQ Option Shuffling : No Is Question Mandatory : No Calculator : None Response Time : N.A Think Time : N.A Minimum Instruction Time : 0

Correct Marks : 5 Wrong Marks : 1

Question Key Details :

Key	Value
Comprehension	Comp2

Read the paragraph given below and answer, the following question :

As in the USSR, the planning commission of India opted for Five Year Plans (FYP). The idea is very simple the government of India prepares a document that has a plan for all its income and expenditure for the next five years. Accordingly the budget of the central and all the state governments is divided into two parts 'non-plan' budget that is spent on routine items on a yearly basis and 'plan' budget that is spent on a five year basis as per the priorities fixed by the plan. A five year plan has the advantage of permitting the government to focus on the larger picture and make long term intervention in the economy.

The document of Five year plan is prepared by :

- (1) Parliament
- (2) Rajya Sabha
- (3) Government of India
- (4) Lok Sabha

Options :

212807130189. 1
212807130190. 2
212807130191. 3
212807130192. 4

Question Number : 1018 Question Id : 21280732548 Question Type : MCQ Option Shuffling : No Is Question Mandatory : No Calculator : None Response Time : N.A Think Time : N.A Minimum Instruction Time : 0

Correct Marks : 5 Wrong Marks : 1

Question Key Details :

Key	Value
Comprehension	Comp2

निम्नलिखित गद्यांश को सावधानीपूर्वक पढ़ें और इसके बाद दिए गए प्रश्न का उत्तर दीजिए।

जैसाकि यू. एस. एस. आर. में है, भारतीय योजना आयोग ने पंचवर्षीय योजनाओं (एफ. वाई. पी.) को चुना। यह विचार अत्यधिक सरल था: भारत सरकार एक उस दस्तावेज को तैयार करती है, जिसमें अगले पाँच वर्षों के लिए उसकी समस्त आय और व्यय की योजना प्रस्तुत की जाती है। तदनु रूप, केन्द्र और राज्य सरकारों के बजट को दो भागों में विभाजित किया जाता है: 'गैर-योजना' बजट, जिसका वार्षिक आधार पर नैत्यक वस्तुओं पर व्यय किया जाता है और 'योजना' बजट, जिसका योजना द्वारा निर्धारित प्राथमिकताओं के अनुसार पंचवर्षीय आधार पर व्यय किया जाता है। पंचवर्षीय योजना का लाभ यह है कि इससे सरकार बृहत्तर रूप से ध्यान केन्द्रित कर पाती है और अर्थव्यवस्था में दीर्घकालिक पहल कर सकती है।

पंचवर्षीय योजना का दस्तावेज किसके द्वारा तैयार किया जाता है?

- (1) संसद
- (2) राज्य सभा
- (3) भारत सरकार
- (4) लोकसभा

Options :

212807130189. 1
212807130190. 2
212807130191. 3
212807130192. 4

Question Number : 1019 Question Id : 21280732549 Question Type : MCQ Option Shuffling : No Is Question Mandatory : No Calculator : None Response Time : N.A Think Time : N.A Minimum Instruction Time : 0

Correct Marks : 5 Wrong Marks : 1

Question Key Details :

Key	Value
Comprehension	Comp2

Read the paragraph given below and answer, the following question :

As in the USSR, the planning commission of India opted for Five Year Plans (FYP). The idea is very simple the government of India prepares a document that has a plan for all its income and expenditure for the next five years. Accordingly the budget of the central and all the state governments is divided into two parts 'non-plan' budget that is spent on routine items on a yearly basis and 'plan' budget that is spent on a five year basis as per the priorities fixed by the plan. A five year plan has the advantage of permitting the government to focus on the larger picture and make long term intervention in the economy.

'Non-Plan' budget is the budget which is :

- (1) Planned but not spent
- (2) Planned but should not be spent
- (3) Spent on a yearly basis
- (4) Spent only in the first year

Options :

212807130193. 1
212807130194. 2
212807130195. 3
212807130196. 4

Question Number : 1019 Question Id : 21280732549 Question Type : MCQ Option Shuffling : No Is Question Mandatory : No Calculator : None
Response Time : N.A Think Time : N.A Minimum Instruction Time : 0

Correct Marks : 5 Wrong Marks : 1

Question Key Details :

Key	Value
Comprehension	Comp2

निम्नलिखित गद्यांश को सावधानीपूर्वक पढ़ें और इसके बाद दिए गए प्रश्न का उत्तर दीजिए।

जैसाकि यू. एस. एस. आर. में है, भारतीय योजना आयोग ने पंचवर्षीय योजनाओं (एफ. वाई. पी.) को चुना। यह विचार अत्यधिक सरल था: भारत सरकार एक उस दस्तावेज को तैयार करती है, जिसमें अगले पाँच वर्षों के लिए उसकी समस्त आय और व्यय की योजना प्रस्तुत की जाती है। तदनुरूप, केन्द्र और राज्य सरकारों के बजट को दो भागों में विभाजित किया जाता है: 'गैर-योजना' बजट, जिसका वार्षिक आधार पर नैत्यक वस्तुओं पर व्यय किया जाता है और 'योजना' बजट, जिसका योजना द्वारा निर्धारित प्राथमिकताओं के अनुसार पंचवर्षीय आधार पर व्यय किया जाता है। पंचवर्षीय योजना का लाभ यह है कि इससे सरकार बृहत्तर रूप से ध्यान केन्द्रित कर पाती है और अर्थव्यवस्था में दीर्घकालिक पहल कर सकती है।

'गैर-योजना' बजट कैसा बजट है ?

- (1) नियोजित, लेकिन व्यय नहीं किया जाता है
- (2) नियोजित, लेकिन व्यय नहीं किया जाना चाहिए
- (3) वार्षिक आधार पर व्यय किया जाता है
- (4) केवल प्रथम वर्ष में व्यय किया जाता है

Options :

212807130193. 1

212807130194. 2

212807130195. 3

212807130196. 4

Question Number : 1020 Question Id : 21280732550 Question Type : MCQ Option Shuffling : No Is Question Mandatory : No Calculator : None
Response Time : N.A Think Time : N.A Minimum Instruction Time : 0

Correct Marks : 5 Wrong Marks : 1

Question Key Details :

Key	Value
Comprehension	Comp2

Read the paragraph given below and answer, the following question :

As in the USSR, the planning commission of India opted for Five Year Plans (FYP). The idea is very simple the government of India prepares a document that has a plan for all its income and expenditure for the next five years. Accordingly the budget of the central and all the state governments is divided into two parts 'non-plan' budget that is spent on routine items on a yearly basis and 'plan' budget that is spent on a five year basis as per the priorities fixed by the plan. A five year plan has the advantage of permitting the government to focus on the larger picture and make long term intervention in the economy.

The idea of Planning commission and five year plan was adopted from :

- (1) Japan
- (2) USSR
- (3) Germany
- (4) France

Options :

212807130197. 1

212807130198. 2

212807130199. 3

212807130200. 4

Question Number : 1020 Question Id : 21280732550 Question Type : MCQ Option Shuffling : No Is Question Mandatory : No Calculator : None Response Time : N.A Think Time : N.A Minimum Instruction Time : 0

Correct Marks : 5 Wrong Marks : 1

Question Key Details :

Key	Value
Comprehension	Comp2

निम्नलिखित गद्यांश को सावधानीपूर्वक पढ़ें और इसके बाद दिए गए प्रश्न का उत्तर दीजिए।

जैसाकि यू. एस. एस. आर. में है, भारतीय योजना आयोग ने पंचवर्षीय योजनाओं (एफ. वाई. पी.) को चुना। यह विचार अत्यधिक सरल था: भारत सरकार एक उस दस्तावेज को तैयार करती है, जिसमें अगले पाँच वर्षों के लिए उसकी समस्त आय और व्यय की योजना प्रस्तुत की जाती है। तदनुरूप, केन्द्र और राज्य सरकारों के बजट को दो भागों में विभाजित किया जाता है: 'गैर-योजना' बजट, जिसका वार्षिक आधार पर नैत्यक वस्तुओं पर व्यय किया जाता है और 'योजना' बजट, जिसका योजना द्वारा निर्धारित प्राथमिकताओं के अनुसार पंचवर्षीय आधार पर व्यय किया जाता है। पंचवर्षीय योजना का लाभ यह है कि इससे सरकार बृहत्तर रूप से ध्यान केन्द्रित कर पाती है और अर्थव्यवस्था में दीर्घकालिक पहल कर सकती है।

योजना आयोग और पंचवर्षीय योजना का विचार किस देश से लिया गया

- (1) जापान
- (2) यू. एस. एस. आर
- (3) जर्मनी
- (4) फ्रांस

Options :

212807130197. 1
212807130198. 2
212807130199. 3
212807130200. 4

Psychology

Group Number :	26
Group Id :	212807750
Group Maximum Duration :	45
Group Minimum Duration :	45
Show Attended Group? :	No
Edit Attended Group? :	No
Break time :	0
Group Marks :	200
Is this Group for Examiner? :	No
Examiner permission :	Cant View
Show Progress Bar? :	No

Psychology

Section Id :	212807884
Section Number :	1
Section type :	Online
Mandatory or Optional :	Mandatory
Number of Questions :	50
Number of Questions to be attempted :	40
Section Marks :	200
Enable Mark as Answered Mark for Review and Clear Response :	Yes
Maximum Instruction Time :	0
Sub-Section Number :	1
Sub-Section Id :	2128072547
Question Shuffling Allowed :	Yes

Is Section Default? :

null

Question Number : 1021 Question Id : 21280732551 Question Type : MCQ Option Shuffling : No Is Question Mandatory : No Calculator : None
Response Time : N.A Think Time : N.A Minimum Instruction Time : 0

Correct Marks : 5 Wrong Marks : 1

Question Key Details :

Key	Value
Comprehension	MCQ

_____ states that, situation and circumstance in which one is placed influence one's behaviour.

- (1) Individual Differences
- (2) Situationism
- (3) Intelligence
- (4) Values

Options :

- 212807130201. 1
- 212807130202. 2
- 212807130203. 3
- 212807130204. 4

Question Number : 1021 Question Id : 21280732551 Question Type : MCQ Option Shuffling : No Is Question Mandatory : No Calculator : None
Response Time : N.A Think Time : N.A Minimum Instruction Time : 0

Correct Marks : 5 Wrong Marks : 1

Question Key Details :

Key	Value
Comprehension	MCQ

किसी का व्यवहार स्थितियों तथा परिस्थितियों द्वारा प्रभावित होता है जिसमें वह रहता है _____ द्वारा ही पता चलता है।

- (1) व्यक्तिगत विभिन्नता
- (2) स्थितिवाद
- (3) बुद्धि
- (4) मूल्य

Options :

- 212807130201. 1
- 212807130202. 2
- 212807130203. 3
- 212807130204. 4

Question Number : 1022 Question Id : 21280732552 Question Type : MCQ Option Shuffling : No Is Question Mandatory : No Calculator : None
Response Time : N.A Think Time : N.A Minimum Instruction Time : 0

Correct Marks : 5 Wrong Marks : 1

Question Key Details :

Key	Value
Comprehension	MCQ

As per the Hierarchical Model given by Arthur Jensen, Level 1 is the _____ where output is similar to input.

- (1) Cognitive competence
- (2) Problem solving ability
- (3) Associative learning
- (4) Semantic learning

Options :

- 212807130205. 1
- 212807130206. 2
- 212807130207. 3
- 212807130208. 4

Question Number : 1022 Question Id : 21280732552 Question Type : MCQ Option Shuffling : No Is Question Mandatory : No Calculator : None
Response Time : N.A Think Time : N.A Minimum Instruction Time : 0

Correct Marks : 5 Wrong Marks : 1

Question Key Details :

Key	Value
Comprehension	MCQ

आरथर जैनसन के द्वारा किए पदानुक्रमिक मॉडल के अनुसार, प्रथम स्तर _____ है जहाँ निर्गत, आगत के समान है।

- (1) संज्ञानात्मक क्षमता
- (2) समस्या समाधान योग्यता
- (3) साहचर्यात्मक अधिगम
- (4) शब्दार्थ विज्ञान अधिगम

Options :

212807130205. 1
212807130206. 2
212807130207. 3
212807130208. 4

Question Number : 1023 Question Id : 21280732553 Question Type : MCQ Option Shuffling : No Is Question Mandatory : No Calculator : None
Response Time : N.A Think Time : N.A Minimum Instruction Time : 0

Correct Marks : 5 Wrong Marks : 1

Question Key Details :

Key	Value
Comprehension	MCQ

Identify the psychologist who gave the notion of contextual or practical intelligence which implies that intelligence is a product of culture.

- (1) Gardner
- (2) J.P. Das, Jack Naglieri and Kirby
- (3) Arthur Jensen
- (4) Robert Sternberg

Options :

212807130209. 1
212807130210. 2
212807130211. 3
212807130212. 4

Question Number : 1023 Question Id : 21280732553 Question Type : MCQ Option Shuffling : No Is Question Mandatory : No Calculator : None
Response Time : N.A Think Time : N.A Minimum Instruction Time : 0

Correct Marks : 5 Wrong Marks : 1

Question Key Details :

Key	Value
Comprehension	MCQ

उस मनोवैज्ञानिक की पहचान कीजिए जिन्होंने सांदिर्भिक अथवा व्यवहारिक बुद्धिमत्ता की धारणा दी जो यह संकत देती है कि बुद्धिमत्ता संस्कृति का गुणन है।

- (1) गार्डनर
- (2) जे.पी. दास, जैक नागलीरी तथा किर्बी
- (3) आरथर-जैनसन
- (4) राबर्ट स्टर्नबर्ग

Options :

212807130209. 1
212807130210. 2

212807130211. 3
212807130212. 4

Question Number : 1024 Question Id : 21280732554 Question Type : MCQ Option Shuffling : No Is Question Mandatory : No Calculator : None
Response Time : N.A Think Time : N.A Minimum Instruction Time : 0
Correct Marks : 5 Wrong Marks : 1

Question Key Details :

Key	Value
Comprehension	MCQ

Seema wants to conduct a creativity test on one of her friends. Which of the following criteria she needs to fulfil to conduct the creativity test ?

- (1) She needs to undergo extensive training for administration and scoring
- (2) She can use any intelligence test to measure
- (3) She needs to learn to sympathise with her friend
- (4) She needs to ask her friend to give more conventional responses to the items

Options :

212807130213. 1
212807130214. 2
212807130215. 3
212807130216. 4

Question Number : 1024 Question Id : 21280732554 Question Type : MCQ Option Shuffling : No Is Question Mandatory : No Calculator : None
Response Time : N.A Think Time : N.A Minimum Instruction Time : 0
Correct Marks : 5 Wrong Marks : 1

Question Key Details :

Key	Value
Comprehension	MCQ

सीमा अपनी एक दोस्त का सृजनात्मक परीक्षण करना चाहती है। सृजनात्मकता परीक्षण की आवश्यकताओं को निम्न में से कौन-सा मानदंड पूर्ण करता है?

- (1) उसे परीक्षण पत्र का उपयोग करने तथा समंजन करने के लिए विस्तृत प्रशिक्षण की आवश्यकता है
- (2) वह मापन के लिए किसी भी बुद्धि परीक्षण का प्रयोग कर सकती है
- (3) उसे अपनी दोस्त के साथ सहानुभूति रखने की आवश्यकता है
- (4) वो अपने मित्र से कहे कि - प्रत्येक प्रश्न का उत्तर औपचारिक रूप से दें।

Options :

212807130213. 1
212807130214. 2
212807130215. 3
212807130216. 4

Question Number : 1025 Question Id : 21280732555 Question Type : MCQ Option Shuffling : No Is Question Mandatory : No Calculator : None
Response Time : N.A Think Time : N.A Minimum Instruction Time : 0
Correct Marks : 5 Wrong Marks : 1

Question Key Details :

Key	Value
Comprehension	MCQ

Your friend is a fabulous painter. Keeping in mind various intelligences from Howard Gardner's theory, which of the following is the most suitable intelligence you see in your friend's ability in forming, using and transforming mental images.

- (1) Linguistic
- (2) Logical Mathematical
- (3) Interpersonal
- (4) Spatial

Options :

212807130217. 1
212807130218. 2
212807130219. 3
212807130220. 4

Question Number : 1025 Question Id : 21280732555 Question Type : MCQ Option Shuffling : No Is Question Mandatory : No Calculator : None
Response Time : N.A Think Time : N.A Minimum Instruction Time : 0

Correct Marks : 5 Wrong Marks : 1

Question Key Details :

Key	Value
Comprehension	MCQ

आपका मित्र उच्च कोटि का पेंटर है। हवाई गार्डनर की विभिन्न बुद्धिमत्ता को ध्यान में रखते हुए, अपने मित्र की निम्न योग्यताओं (रचनात्मकता प्रयोग एवं रूपांतरण मानसिक धारणा) से बतायें कि कौन उपयुक्त बुद्धिमत्ता का सिद्धांत है।

- (1) भाषागत
- (2) तार्किक-गणितीय
- (3) अंतवैयक्तिक
- (4) देशिक

Options :

212807130217. 1
212807130218. 2
212807130219. 3
212807130220. 4

Question Number : 1026 Question Id : 21280732556 Question Type : MCQ Option Shuffling : No Is Question Mandatory : No Calculator : None
Response Time : N.A Think Time : N.A Minimum Instruction Time : 0

Correct Marks : 5 Wrong Marks : 1

Question Key Details :

Key	Value
Comprehension	MCQ

Which of the following statements are not true for gifted children ?

- (A) Advanced logical thinking and problem solving behaviour
- (B) Difficulty in processing information
- (C) Independent and non-conformist thinking
- (D) Lack original and creative thinking
- (E) Prefer solitary academic activities for long period

Choose the correct answer from the options given below :

- (1) (A) and (B) only
- (2) (B) and (E) only
- (3) (C) and (A) only
- (4) (B) and (D) only

Options :

212807130221. 1
212807130222. 2
212807130223. 3
212807130224. 4

Question Number : 1026 Question Id : 21280732556 Question Type : MCQ Option Shuffling : No Is Question Mandatory : No Calculator : None
Response Time : N.A Think Time : N.A Minimum Instruction Time : 0

Correct Marks : 5 Wrong Marks : 1

Question Key Details :

Key	Value
-----	-------

निम्न में से कौन-से कथन प्रतिभाशाली बालकों के लिए सत्य नहीं है?

- (A) उच्च तार्किक चिन्तन और समस्या समाधान व्यवहार
- (B) सूचना संसाधन में जटिलता
- (C) स्वतन्त्र व अननुरूप प्रकार का चिन्तन
- (D) मौलिक एवं सृजनात्मक चिन्तन में कमी
- (E) लंबी अवधी तक अकेले रह कर अध्ययन की क्रिया को पसन्द करता है।

नीचे दिए गए विकल्पों में से सही उत्तर का चयन कीजिए :

- (1) केवल (A) और (B)
- (2) केवल (B) और (E)
- (3) केवल (C) और (A)
- (4) केवल (B) और (D)

Options :

- 212807130221. 1
- 212807130222. 2
- 212807130223. 3
- 212807130224. 4

Question Number : 1027 Question Id : 21280732557 Question Type : MCQ Option Shuffling : No Is Question Mandatory : No Calculator : None Response Time : N.A Think Time : N.A Minimum Instruction Time : 0

Correct Marks : 5 Wrong Marks : 1

Question Key Details :

Key	Value
Comprehension	MCQ

Match List - I with List - II.

List - I	List - II
Description	IQ range
(A) Borderline	(I) 80 - 89
(B) High average	(II) 70 - 79
(C) Low average	(III) 90 - 109
(D) Average	(IV) 110 - 119

Choose the correct answer from the options given below :

- (1) (A)-(II), (B)-(IV), (C)-(III), (D)-(I)
- (2) (A)-(I), (B)-(II), (C)-(IV), (D)-(III)
- (3) (A)-(II), (B)-(IV), (C)-(I), (D)-(III)
- (4) (A)-(I), (B)-(II), (C)-(III), (D)-(IV)

Options :

- 212807130225. 1
- 212807130226. 2
- 212807130227. 3
- 212807130228. 4

Question Number : 1027 Question Id : 21280732557 Question Type : MCQ Option Shuffling : No Is Question Mandatory : No Calculator : None Response Time : N.A Think Time : N.A Minimum Instruction Time : 0

Correct Marks : 5 Wrong Marks : 1

Question Key Details :

Key	Value
Comprehension	MCQ

सूची-I से सूची-II का मिलान कीजिए:

सूची-I विवरण	सूची-II बुद्धि लब्धि वर्ग
(A) सीमावर्ती	(I) 80 - 89
(B) औसत से अधिक	(II) 70 - 79
(C) औसत से कम	(III) 90 - 109
(D) औसत	(IV) 110 - 119

नीचे दिए गए विकल्पों में से सही उत्तर का चयन कीजिए :

- (1) (A)-(II), (B)-(IV), (C)-(III), (D)-(I)
- (2) (A)-(I), (B)-(II), (C)-(IV), (D)-(III)
- (3) (A)-(II), (B)-(IV), (C)-(I), (D)-(III)
- (4) (A)-(I), (B)-(II), (C)-(III), (D)-(IV)

Options :

212807130225. 1

212807130226. 2

212807130227. 3

212807130228. 4

Question Number : 1028 Question Id : 21280732558 Question Type : MCQ Option Shuffling : No Is Question Mandatory : No Calculator : None Response Time : N.A Think Time : N.A Minimum Instruction Time : 0

Correct Marks : 5 Wrong Marks : 1

Question Key Details :

Key	Value
Comprehension	MCQ

Mr. Thomas lost his wife due to corona virus. However, he calls on her mobile phone every single day hoping she would answer his calls. He is in a state of :

- (1) Denial
- (2) Projection
- (3) Repression
- (4) Reaction formation

Options :

212807130229. 1

212807130230. 2

212807130231. 3

212807130232. 4

Question Number : 1028 Question Id : 21280732558 Question Type : MCQ Option Shuffling : No Is Question Mandatory : No Calculator : None Response Time : N.A Think Time : N.A Minimum Instruction Time : 0

Correct Marks : 5 Wrong Marks : 1

Question Key Details :

Key	Value
Comprehension	MCQ

श्रीमान थामस ने कोरोना वायरस के कारण अपनी पत्नी को खो (देहांत) दिया है। फिर भी प्रत्येक दिन वह उन्हें फोन कॉल करते हैं इस उम्मीद से की वह उत्तर देंगी। वह किस अवस्था में है:

- (1) अस्वीकरण
- (2) प्रक्षेपण
- (3) दमन
- (4) प्रतिक्रिया निर्माण

Options :

212807130229. 1
212807130230. 2
212807130231. 3
212807130232. 4

Question Number : 1029 Question Id : 21280732559 Question Type : MCQ Option Shuffling : No Is Question Mandatory : No Calculator : None
Response Time : N.A Think Time : N.A Minimum Instruction Time : 0

Correct Marks : 5 Wrong Marks : 1

Question Key Details :

Key	Value
Comprehension	MCQ

The concept of 'Collective Unconscious' was given by :

- (1) Karen Horney
- (2) Carl Jung
- (3) Alfred Adler
- (4) Erich from

Options :

212807130233. 1
212807130234. 2
212807130235. 3
212807130236. 4

Question Number : 1029 Question Id : 21280732559 Question Type : MCQ Option Shuffling : No Is Question Mandatory : No Calculator : None
Response Time : N.A Think Time : N.A Minimum Instruction Time : 0

Correct Marks : 5 Wrong Marks : 1

Question Key Details :

Key	Value
Comprehension	MCQ

'सामूहिक अचेतन' का प्रत्यय किसके द्वारा दिया गया था :

- (1) कैरन हैरनी
- (2) कार्ल युंग
- (3) एलफ्रेड एडलर
- (4) एरिक फ्रौम

Options :

212807130233. 1
212807130234. 2
212807130235. 3
212807130236. 4

Question Number : 1030 Question Id : 21280732560 Question Type : MCQ Option Shuffling : No Is Question Mandatory : No Calculator : None
Response Time : N.A Think Time : N.A Minimum Instruction Time : 0

Correct Marks : 5 Wrong Marks : 1

Question Key Details :

Key	Value
-----	-------

Prakash is achievement-oriented, dependable responsible, hardworking and self-controlled. Prakash is high on _____ factor.

- (1) Extraversion
- (2) Agreeableness
- (3) Neuroticism
- (4) Conscientiousness

Options :

212807130237. 1
212807130238. 2
212807130239. 3
212807130240. 4

Question Number : 1030 Question Id : 21280732560 Question Type : MCQ Option Shuffling : No Is Question Mandatory : No Calculator : None
Response Time : N.A Think Time : N.A Minimum Instruction Time : 0

Correct Marks : 5 Wrong Marks : 1

Question Key Details :

Key	Value
Comprehension	MCQ

प्रकाश उपलब्धि-उन्मुक्त, विश्वसनीय, उत्तरदायी, मेहनती और आत्म नियंत्रित है। प्रकाश में कौन सा कारण _____ उच्च स्तरीय है।

- (1) बहिर्मुखता
- (2) सहमतिशीलता
- (3) तंत्रिकाताप
- (4) अंतर्वेकशिलता

Options :

212807130237. 1
212807130238. 2
212807130239. 3
212807130240. 4

Question Number : 1031 Question Id : 21280732561 Question Type : MCQ Option Shuffling : No Is Question Mandatory : No Calculator : None
Response Time : N.A Think Time : N.A Minimum Instruction Time : 0

Correct Marks : 5 Wrong Marks : 1

Question Key Details :

Key	Value
Comprehension	MCQ

Mr. 'A', is working in a Multinational Company (MNC). He is always in a great hurry, possesses high motivation, feels short of time. Identify the type of personality, Mr. 'A', is displaying.

- (1) Type C
- (2) Type D
- (3) Type A
- (4) Type B

Options :

212807130241. 1
212807130242. 2
212807130243. 3
212807130244. 4

Question Number : 1031 Question Id : 21280732561 Question Type : MCQ Option Shuffling : No Is Question Mandatory : No Calculator : None
Response Time : N.A Think Time : N.A Minimum Instruction Time : 0

Correct Marks : 5 Wrong Marks : 1

Question Key Details :

Key	Value
Comprehension	MCQ

श्रीमान 'अ' एक मल्टीनेशनल कंपनी (MNC) में काम कर रहे हैं। वह हमेशा बहुत जल्दी में रहते हैं, अधिक अभिप्रेरित, समय की कमी को महसूस करते हैं। श्रीमान 'अ' के व्यक्तित्व के प्रकार पहचान कीजिए :

- (1) टाइप सी
- (2) टाइप डी
- (3) टाइप ए
- (4) टाइप बी

Options :

212807130241. 1
212807130242. 2
212807130243. 3
212807130244. 4

Question Number : 1032 Question Id : 21280732562 Question Type : MCQ Option Shuffling : No Is Question Mandatory : No Calculator : None Response Time : N.A Think Time : N.A Minimum Instruction Time : 0

Correct Marks : 5 Wrong Marks : 1

Question Key Details :

Key	Value
Comprehension	MCQ

You strongly believe you can control, select, influence, and even construct the circumstances of your life. You do not believe in luck or fate for passing your examinations. You would be high on _____ as you have the conviction about your own effectiveness.

- (1) Self - concept
- (2) Self - esteem
- (3) Self efficacy
- (4) Self control

Options :

212807130245. 1
212807130246. 2
212807130247. 3
212807130248. 4

Question Number : 1032 Question Id : 21280732562 Question Type : MCQ Option Shuffling : No Is Question Mandatory : No Calculator : None Response Time : N.A Think Time : N.A Minimum Instruction Time : 0

Correct Marks : 5 Wrong Marks : 1

Question Key Details :

Key	Value
Comprehension	MCQ

आप पूर्ण विश्वास करते हैं कि आप स्वयं अपने जीवन को नियन्त्रित, चयनित, प्रभावित और जीवन की परिस्थितियों का निर्माण भी कर सकते हैं। आप अपनी परीक्षाओं में सफल होने के लिए भाग्य पर भरोसा नहीं करते। आपको अपनी प्रभाविता पर दृढ़ विश्वास है इसलिए आपमें _____ उच्च होगा।

- (1) आत्म-संप्रत्यय
- (2) आत्म सम्मान
- (3) आत्म सक्षमता
- (4) आत्म-नियमन

Options :

212807130245. 1

212807130246. 2
212807130247. 3
212807130248. 4

Question Number : 1033 Question Id : 21280732563 Question Type : MCQ Option Shuffling : No Is Question Mandatory : No Calculator : None
Response Time : N.A Think Time : N.A Minimum Instruction Time : 0

Correct Marks : 5 Wrong Marks : 1

Question Key Details :

Key	Value
Comprehension	MCQ

In self report measure, the tendency of the subject to agree with items/questions irrespective of their content is known as _____.

- (1) Social desirability
- (2) Acquiescence
- (3) Agreeableness
- (4) Openness to experiences

Options :

212807130249. 1
212807130250. 2
212807130251. 3
212807130252. 4

Question Number : 1033 Question Id : 21280732563 Question Type : MCQ Option Shuffling : No Is Question Mandatory : No Calculator : None
Response Time : N.A Think Time : N.A Minimum Instruction Time : 0

Correct Marks : 5 Wrong Marks : 1

Question Key Details :

Key	Value
Comprehension	MCQ

आत्म-प्रतिवेदन मापन में, उत्तरदाता की प्रवृत्ति होती है कि वह विषय वस्तु पर ध्यान दिए बिना ही सवालों से सहमत हो। इसे _____ जाना जाता है।

- (1) सामाजिक वांछनीयता
- (2) संप्राप्ति अनुमनन
- (3) सहमतिशीलता
- (4) अनुभवों के प्रति मुक्त

Options :

212807130249. 1
212807130250. 2
212807130251. 3
212807130252. 4

Question Number : 1034 Question Id : 21280732564 Question Type : MCQ Option Shuffling : No Is Question Mandatory : No Calculator : None
Response Time : N.A Think Time : N.A Minimum Instruction Time : 0

Correct Marks : 5 Wrong Marks : 1

Question Key Details :

Key	Value
Comprehension	MCQ

Arrange the sequence of Draw-a-Person Test :

- (A) Then the subject is asked to draw a figure of an opposite sex person
- (B) A pencil and an eraser provided to facilitate the subject to draw a person
- (C) Interpretation is then done based on the drawing
- (D) The subject is asked to make a story about the person as a novel's character

Choose the correct answer from the options given below :

- (1) (B), (C), (D), (A)
- (2) (B), (A), (D), (C)
- (3) (D), (A), (B), (C)
- (4) (A), (D), (C), (B)

Options :

- 212807130253. 1
- 212807130254. 2
- 212807130255. 3
- 212807130256. 4

Question Number : 1034 Question Id : 21280732564 Question Type : MCQ Option Shuffling : No Is Question Mandatory : No Calculator : None Response Time : N.A Think Time : N.A Minimum Instruction Time : 0

Correct Marks : 5 Wrong Marks : 1

Question Key Details :

Key	Value
Comprehension	MCQ

Draw-a-Person परीक्षण के क्रम को व्यवस्थित कीजिए :

- (A) उत्तरदाता से विपरीत लिंग के व्यक्ति का चित्र बनाने को कहा जाता है
- (B) एक पेंसिल और रबड़ उस आकृति को भली प्रकार बनाने के लिए दिया जाता है
- (C) बनाये हुये चित्र के आधार पर व्याख्या की जाती है
- (D) उत्तरदाता को एक कहानी उस व्यक्ति के विषय में बनाने के लिए कहा जाता है जो कि उस कहानी का एक पात्र है।

नीचे दिए गए विकल्पों में से सही उत्तर का चयन कीजिए :

- (1) (B), (C), (D), (A)
- (2) (B), (A), (D), (C)
- (3) (D), (A), (B), (C)
- (4) (A), (D), (C), (B)

Options :

- 212807130253. 1
- 212807130254. 2
- 212807130255. 3
- 212807130256. 4

Question Number : 1035 Question Id : 21280732565 Question Type : MCQ Option Shuffling : No Is Question Mandatory : No Calculator : None Response Time : N.A Think Time : N.A Minimum Instruction Time : 0

Correct Marks : 5 Wrong Marks : 1

Question Key Details :

Key	Value
Comprehension	MCQ

Match List - I with List - II.

List - I

- (A) Morgan and Murray
(B) Nomination
(C) Sentence Completion Test
(D) Minnesota Multiphasic Personality Inventory

List - II

- (I) Behavioural Analysis
(II) Projective Technique
(III) Self report measure
(IV) TAT (Thematic Apperception Test)

Choose the correct answer from the options given below :

- (1) (A)-(II), (B)-(III), (C)-(IV), (D)-(I)
(2) (A)-(IV), (B)-(II), (C)-(III), (D)-(I)
(3) (A)-(I), (B)-(IV), (C)-(II), (D)-(III)
(4) (A)-(IV), (B)-(I), (C)-(II), (D)-(III)

Options :

212807130257. 1
212807130258. 2
212807130259. 3
212807130260. 4

Question Number : 1035 Question Id : 21280732565 Question Type : MCQ Option Shuffling : No Is Question Mandatory : No Calculator : None
Response Time : N.A Think Time : N.A Minimum Instruction Time : 0

Correct Marks : 5 Wrong Marks : 1

Question Key Details :

Key	Value
Comprehension	MCQ

सूची-I से सूची-II का मिलान कीजिए:

सूची-I

- (A) मॉर्गन और मुर्रे
(B) नोमिनेशन
(C) वाक्य समापन परीक्षण
(D) मिनिसोटा मल्टीफेसिक व्यक्तित्व प्रश्नावली

सूची-II

- (I) व्यवहारपरक विश्लेषण
(II) प्रक्षेपी विधि
(III) आत्म-प्रतिवेदन मापन
(IV) TAT (कथानक संप्रत्यक्षण परीक्षण)

नीचे दिए गए विकल्पों में से सही उत्तर का चयन कीजिए :

- (1) (A)-(II), (B)-(III), (C)-(IV), (D)-(I)
(2) (A)-(IV), (B)-(II), (C)-(III), (D)-(I)
(3) (A)-(I), (B)-(IV), (C)-(II), (D)-(III)
(4) (A)-(IV), (B)-(I), (C)-(II), (D)-(III)

Options :

212807130257. 1
212807130258. 2
212807130259. 3
212807130260. 4

Question Number : 1036 Question Id : 21280732566 Question Type : MCQ Option Shuffling : No Is Question Mandatory : No Calculator : None
Response Time : N.A Think Time : N.A Minimum Instruction Time : 0

Correct Marks : 5 Wrong Marks : 1

Question Key Details :

Key	Value
Comprehension	MCQ

Diagnostic and Statistical manual of Mental Disorders was published by _____

- (1) World Health Organisation (WHO)
- (2) American Association on Mental Deficiency (AAMD)
- (3) American Psychiatric Association (APA)
- (4) American Psychological Association (APA)

Options :

- 212807130261. 1
- 212807130262. 2
- 212807130263. 3
- 212807130264. 4

Question Number : 1036 Question Id : 21280732566 Question Type : MCQ Option Shuffling : No Is Question Mandatory : No Calculator : None
Response Time : N.A Think Time : N.A Minimum Instruction Time : 0

Correct Marks : 5 Wrong Marks : 1

Question Key Details :

Key	Value
Comprehension	MCQ

डायगनोस्टिक एंड स्टैटिस्टिकल मैनुअल ऑफ मेंटल डिसऑर्डर को _____ के द्वारा प्रकाशित किया गया था।

- (1) विश्व स्वास्थ्य संगठन (WHO)
- (2) अमेरिकन एसोसिएशन ऑफ मेंटल डेफिशनशि (AAMD)
- (3) अमेरिकन साइकियाट्रिक असोसियेशन (APA)
- (4) अमेरिकन साइकोलॉजिकल असोसियेशन (APA)

Options :

- 212807130261. 1
- 212807130262. 2
- 212807130263. 3
- 212807130264. 4

Question Number : 1037 Question Id : 21280732567 Question Type : MCQ Option Shuffling : No Is Question Mandatory : No Calculator : None
Response Time : N.A Think Time : N.A Minimum Instruction Time : 0

Correct Marks : 5 Wrong Marks : 1

Question Key Details :

Key	Value
Comprehension	MCQ

According to _____ approach, psychological problems are caused by inadequacies in the way an individual thinks, feels or perceives the world.

- (1) Psychological
- (2) Supernatural
- (3) Biological
- (4) Organismic

Options :

- 212807130265. 1
- 212807130266. 2
- 212807130267. 3
- 212807130268. 4

Question Number : 1037 Question Id : 21280732567 Question Type : MCQ Option Shuffling : No Is Question Mandatory : No Calculator : None
Response Time : N.A Think Time : N.A Minimum Instruction Time : 0

Correct Marks : 5 Wrong Marks : 1

Question Key Details :

Key	Value
Comprehension	MCQ

_____ उपागम के अनुसार, मनोवैज्ञानिक समस्याओं का कारण व्यक्तिगत विचार, भावनाओं तथा संसार को देखने के नजरिये में अपर्याप्तता के कारण उत्पन्न होता है।

- (1) मनोवैज्ञानिक
- (2) आलौकिक
- (3) जैविक
- (4) सर्वांगिक उपागम

Options :

212807130265. 1
212807130266. 2
212807130267. 3
212807130268. 4

Question Number : 1038 Question Id : 21280732568 Question Type : MCQ Option Shuffling : No Is Question Mandatory : No Calculator : None
Response Time : N.A Think Time : N.A Minimum Instruction Time : 0

Correct Marks : 5 Wrong Marks : 1

Question Key Details :

Key	Value
Comprehension	MCQ

_____ refers to below average intellectual functioning and deficits or impairments in adaptive behaviour which are manifested before the age of 18 years.

- (1) Obsessive - Compulsive Disorder
- (2) Separation Anxiety Disorder
- (3) Intellectual Disability
- (4) Autism Spectrum Disorder

Options :

212807130269. 1
212807130270. 2
212807130271. 3
212807130272. 4

Question Number : 1038 Question Id : 21280732568 Question Type : MCQ Option Shuffling : No Is Question Mandatory : No Calculator : None
Response Time : N.A Think Time : N.A Minimum Instruction Time : 0

Correct Marks : 5 Wrong Marks : 1

Question Key Details :

Key	Value
Comprehension	MCQ

नीचे दिए गए तथ्यों का प्रयोग करते हुए औसत वृद्धि प्रकार्य और व्यवहार अनुकूलन में हानी, जो 18 वर्ष से पूर्व में परिलक्षित होता है।

- (1) मनोग्रस्ति-बाध्यता विकार
- (2) वियोगज दुश्चिंता विकार
- (3) बौद्धिक अशक्तता विकार
- (4) स्वलीनता वर्णक्रम विकार

Options :

212807130269. 1
212807130270. 2
212807130271. 3
212807130272. 4

Question Number : 1039 Question Id : 21280732569 Question Type : MCQ Option Shuffling : No Is Question Mandatory : No Calculator : None
Response Time : N.A Think Time : N.A Minimum Instruction Time : 0

Correct Marks : 5 Wrong Marks : 1

Question Key Details :

Key	Value
Comprehension	MCQ

Kavita has a distorted body image of being overweight. She often refuses to eat, exercises compulsively and even starves. She is suffering from _____.

- (1) Binge eating
- (2) Bulimia Nervosa
- (3) Anorexia Nervosa
- (4) Anxiety Disorders

Options :

212807130273. 1
212807130274. 2
212807130275. 3
212807130276. 4

Question Number : 1039 Question Id : 21280732569 Question Type : MCQ Option Shuffling : No Is Question Mandatory : No Calculator : None
Response Time : N.A Think Time : N.A Minimum Instruction Time : 0

Correct Marks : 5 Wrong Marks : 1

Question Key Details :

Key	Value
Comprehension	MCQ

कविता की बढ़े हुए वजन के कारण विरूपित शारीरिक छवि है। प्रायः वह खाने को मना करती है। अत्यधिक व्यायाम और भूखी भी रहती हैं वह _____ से पीड़ित है।

- (1) अनियंत्रित भोजन
- (2) क्षुधतिशियता
- (3) क्षुधा-अभाव
- (4) दशिंचता विकार

Options :

212807130273. 1
212807130274. 2
212807130275. 3
212807130276. 4

Question Number : 1040 Question Id : 21280732570 Question Type : MCQ Option Shuffling : No Is Question Mandatory : No Calculator : None
Response Time : N.A Think Time : N.A Minimum Instruction Time : 0

Correct Marks : 5 Wrong Marks : 1

Question Key Details :

Key	Value
Comprehension	MCQ

Schizophrenia is the descriptive term for a group of psychotic disorder. Identify its other symptoms :

- (A) The positive symptoms are the excesses of thought, emotion and behaviour
- (B) Formal thought disorder is a part of schizophrenia symptom
- (C) Delusions are a part of negative symptoms
- (D) The negative symptoms are the deficits in thought, emotion and behaviour
- (E) Blunt affect is showing excessive emotions

Choose the correct answer from the options given below :

- (1) (B), (C), (E) Only
- (2) (A), (B), (E) Only
- (3) (A), (B), (D) Only
- (4) (B), (C), (D) Only

Options :

- 212807130277. 1
- 212807130278. 2
- 212807130279. 3
- 212807130280. 4

Question Number : 1040 Question Id : 21280732570 Question Type : MCQ Option Shuffling : No Is Question Mandatory : No Calculator : None Response Time : N.A Think Time : N.A Minimum Instruction Time : 0

Correct Marks : 5 Wrong Marks : 1

Question Key Details :

Key	Value
Comprehension	MCQ

मनोविदलता मनोविकृति विकार के समूह का विवरणात्मक पद है। इसके अन्य लक्षणों को पहचानिए :

- (A) विचारों, भावों तथा व्यवहार की अधिकता एक सकारात्मक लक्षण है
- (B) औपचारिक विचार विकार मनोविदलता लक्षण का एक भाग है
- (C) भ्रमासक्ति नकारात्मक लक्षणों का एक भाग है
- (D) विचारों, भावों तथा व्यवहार का अभाव नकारात्मक लक्षण है
- (E) कुंठित भाव अत्यधिक भावों को दर्शाता है

नीचे दिए गए विकल्पों में से सही उत्तर का चयन कीजिए :

- (1) केवल (B), (C), (E)
- (2) केवल (A), (B), (E)
- (3) केवल (A), (B), (D)
- (4) केवल (B), (C), (D)

Options :

- 212807130277. 1
- 212807130278. 2
- 212807130279. 3
- 212807130280. 4

Question Number : 1041 Question Id : 21280732571 Question Type : MCQ Option Shuffling : No Is Question Mandatory : No Calculator : None Response Time : N.A Think Time : N.A Minimum Instruction Time : 0

Correct Marks : 5 Wrong Marks : 1

Question Key Details :

Key	Value
Comprehension	MCQ

Match List - I with List - II.

List - I

- (A) Deviance
(B) Distress
(C) Dysfunction
(D) Danger

List - II

- (I) Interfering with person's ability to carry out day to day activities
(II) Different, extreme, unusual, even bizarre
(III) Unpleasant and upsetting to the person and to others
(IV) Causing harm to the person or to others

Choose the correct answer from the options given below :

- (1) (A)-(I), (B)-(IV), (C)-(III), (D)-(II)
(2) (A)-(II), (B)-(III), (C)-(I), (D)-(IV)
(3) (A)-(II), (B)-(IV), (C)-(III), (D)-(I)
(4) (A)-(III), (B)-(I), (C)-(II), (D)-(IV)

Options :

212807130281. 1
212807130282. 2
212807130283. 3
212807130284. 4

Question Number : 1041 Question Id : 21280732571 Question Type : MCQ Option Shuffling : No Is Question Mandatory : No Calculator : None
Response Time : N.A Think Time : N.A Minimum Instruction Time : 0

Correct Marks : 5 Wrong Marks : 1

Question Key Details :

Key	Value
Comprehension	MCQ

सूची-I से सूची-II का मिलान कीजिए :

सूची-I

- (A) विसामान्यता
(B) कष्ट
(C) अपक्रिया
(D) खतरा

सूची-II

- (I) दैनिक क्रियाकलापों को पूर्ण करने में व्यक्ति की योग्यता के साथ हस्तक्षेप
(II) भिन्न चरमबिन्दु असाधारण व अनोखा
(III) असुखद तथा व्यक्ति और दूसरों को परेशान कर देना
(IV) व्यक्ति या दूसरों को नुकसान पहुँचाना

नीचे दिए गए विकल्पों में से सही उत्तर का चयन कीजिए :

- (1) (A)-(I), (B)-(IV), (C)-(III), (D)-(II)
(2) (A)-(II), (B)-(III), (C)-(I), (D)-(IV)
(3) (A)-(II), (B)-(IV), (C)-(III), (D)-(I)
(4) (A)-(III), (B)-(I), (C)-(II), (D)-(IV)

Options :

212807130281. 1
212807130282. 2
212807130283. 3
212807130284. 4

Question Number : 1042 Question Id : 21280732572 Question Type : MCQ Option Shuffling : No Is Question Mandatory : No Calculator : None
Response Time : N.A Think Time : N.A Minimum Instruction Time : 0

Correct Marks : 5 Wrong Marks : 1

Question Key Details :

Key	Value
Comprehension	MCQ

Systematic Desensitization technique, given by Wolpe, is based on _____.

- (1) Principle of Reciprocal Inhibition
- (2) Modelling
- (3) Positive Reinforcement
- (4) Aversive conditioning

Options :

212807130285. 1
212807130286. 2
212807130287. 3
212807130288. 4

Question Number : 1042 Question Id : 21280732572 Question Type : MCQ Option Shuffling : No Is Question Mandatory : No Calculator : None
Response Time : N.A Think Time : N.A Minimum Instruction Time : 0

Correct Marks : 5 Wrong Marks : 1

Question Key Details :

Key	Value
Comprehension	MCQ

वुल्फे (Wolpe) के द्वारा दी गई क्रमिक विसंवेदनीकरण विधि _____ पर आधारित है।

- (1) अन्योन्य प्रावरोध का सिद्धांत
- (2) प्रतिरूपण
- (3) सकारात्मक पुनर्बलन
- (4) विमुखी अनुबंधन

Options :

212807130285. 1
212807130286. 2
212807130287. 3
212807130288. 4

Question Number : 1043 Question Id : 21280732573 Question Type : MCQ Option Shuffling : No Is Question Mandatory : No Calculator : None
Response Time : N.A Think Time : N.A Minimum Instruction Time : 0

Correct Marks : 5 Wrong Marks : 1

Question Key Details :

Key	Value
Comprehension	MCQ

Leena goes to a therapist who conveys through her words and behavior that she is not judging her and will continue to show the same positive feelings towards the client even if he is rude. The therapist is demonstrating.

- (1) habit modification
- (2) self awareness
- (3) sympathy
- (4) unconditional positive regard

Options :

212807130289. 1
212807130290. 2
212807130291. 3
212807130292. 4

Question Number : 1043 Question Id : 21280732573 Question Type : MCQ Option Shuffling : No Is Question Mandatory : No Calculator : None
Response Time : N.A Think Time : N.A Minimum Instruction Time : 0

Correct Marks : 5 Wrong Marks : 1

Question Key Details :

Key	Value
-----	-------

लीना एक चिकित्सक के पास जाती है जो अपने शब्दों और व्यवहार से दर्शाती है कि वह उसका मूल्यांकन नहीं कर रही और वह अपने मरीज के प्रति समान सकारात्मक भाव रखेगी चाहे मरीज कितना खराब व्यवहार क्यों न करें। इसमें चिकित्सक क्या प्रदर्शित करने का प्रयास कर रहा है?

- (1) आदतों में बदलाव
- (2) आत्म-जागरूकता
- (3) सहानुभूति
- (4) अर्शत सकारात्मक आदर

Options :

212807130289. 1

212807130290. 2

212807130291. 3

212807130292. 4

Question Number : 1044 Question Id : 21280732574 Question Type : MCQ Option Shuffling : No Is Question Mandatory : No Calculator : None Response Time : N.A Think Time : N.A Minimum Instruction Time : 0

Correct Marks : 5 Wrong Marks : 1

Question Key Details :

Key	Value
Comprehension	MCQ

Identify the institute which has found Kundalini Yoga effective in the treatment of Obsessive Compulsive disorder.

- (1) National institute of Mental Health and Neurosciences, (NIMHANS), India
- (2) Institute for Non-linear Science University of California
- (3) Institute of Mental Health and Neuroscience, University of Los-Angeles
- (4) Institute for Non-linear Science, University of Los-Angeles

Options :

212807130293. 1

212807130294. 2

212807130295. 3

212807130296. 4

Question Number : 1044 Question Id : 21280732574 Question Type : MCQ Option Shuffling : No Is Question Mandatory : No Calculator : None Response Time : N.A Think Time : N.A Minimum Instruction Time : 0

Correct Marks : 5 Wrong Marks : 1

Question Key Details :

Key	Value
Comprehension	MCQ

उस संस्थान की पहचान कीजिए जिसने यह बताया कि कुंडलिनी योग बाध्यता मनोग्रस्त विकार के उपचार के लिए प्रभावी है।

- (1) राष्ट्रीय मानसिक स्वास्थ्य एवं तंत्रिकाविज्ञान संस्थान
- (2) अरैखिक विज्ञान संस्थान, कैलिफोर्निया विश्वविद्यालय
- (3) मानसिक स्वास्थ्य एवं तंत्रिका विज्ञान संस्थान, लॉस एंजलिस विश्वविद्यालय
- (4) अरैखिक विज्ञान संस्थान, लॉस एंजलिस विश्वविद्यालय

Options :

212807130293. 1

212807130294. 2

212807130295. 3

212807130296. 4

Question Number : 1045 Question Id : 21280732575 Question Type : MCQ Option Shuffling : No Is Question Mandatory : No Calculator : None Response Time : N.A Think Time : N.A Minimum Instruction Time : 0

Correct Marks : 5 Wrong Marks : 1

Question Key Details :

Key	Value
Comprehension	MCQ

Identify the correct sequence in Aaron Beck's therapy.

- (A) The child develops a core schema, 'I am ugly' due to his experiences at home
- (B) The negative thoughts are known as cognitive distortions
- (C) This theory states that childhood experiences provided by the family develops core schemas in the child
- (D) These cognitive distortions distort the reality in a negative manner leading to dysfunctional cognitive structures
- (E) Later he gets a terrible remark in neighbourhood that he is not good looking leading to negative thoughts about himself

Choose the correct answer from the options given below :

- (1) (C), (E), (A), (D), (B)
- (2) (C), (A), (E), (B), (D)
- (3) (A), (B), (C), (E), (D)
- (4) (A), (C), (E), (D), (B)

Options :

212807130297. 1

212807130298. 2

212807130299. 3

212807130300. 4

Question Number : 1045 Question Id : 21280732575 Question Type : MCQ Option Shuffling : No Is Question Mandatory : No Calculator : None Response Time : N.A Think Time : N.A Minimum Instruction Time : 0

Correct Marks : 5 Wrong Marks : 1

Question Key Details :

Key	Value
Comprehension	MCQ

आरोन बैक की चिकित्सा के सही क्रम को पहचानिए।

- (A) घर के अनुभवों के द्वारा बालक में मूल स्कीमा 'मैं कुरूप हूँ' विकसित होता है
(B) नकारात्मक विचारों को संज्ञानात्मक विकृतियों के नाम से भी जाना जाता है
(C) यह सिद्धान्त बताता है कि बच्चे में मूल स्कीमा का निर्धारण परिवार द्वारा दिये अनुभवों से होता है।
(D) यह संज्ञानात्मक विकृतिया, वास्तविकता को नकारात्मक रूप से विकृत करती है। जो अपक्रियात्मक संज्ञानात्मक संरचना को अग्रसर करती है।
(E) बाद में उसे अपने पड़ोस से भयानक टिप्पणी मिलती है कि वह दिखने में अच्छा नहीं है, जो कि उसे अपने बारे में नकारात्मक विचारों को उत्पन्न करती है।

नीचे दिए गए विकल्पों में से सही उत्तर का चयन कीजिए :

- (1) (C), (E), (A), (D), (B)
(2) (C), (A), (E), (B), (D)
(3) (A), (B), (C), (E), (D)
(4) (A), (C), (E), (D), (B)

Options :

212807130297. 1
212807130298. 2
212807130299. 3
212807130300. 4

Question Number : 1046 Question Id : 21280732576 Question Type : MCQ Option Shuffling : No Is Question Mandatory : No Calculator : None
Response Time : N.A Think Time : N.A Minimum Instruction Time : 0

Correct Marks : 5 Wrong Marks : 1

Question Key Details :

Key	Value
Comprehension	MCQ

Identify the factors contributing to healing in Psychotherapies :

- (A) Techniques adopted by the therapist
(B) Instruction given by the family and therapist
(C) A good therapeutic alliance
(D) Proper advice given by the client to therapist
(E) Emotional unburdening of the client

Choose the correct answer from the options given below :

- (1) (A), (C), (E) only
(2) (B), (D), (E) only
(3) (B), (D), (A) only
(4) (E), (A), (B) only

Options :

212807130301. 1
212807130302. 2
212807130303. 3
212807130304. 4

Question Number : 1046 Question Id : 21280732576 Question Type : MCQ Option Shuffling : No Is Question Mandatory : No Calculator : None
Response Time : N.A Think Time : N.A Minimum Instruction Time : 0

Correct Marks : 5 Wrong Marks : 1

Question Key Details :

Key	Value
-----	-------

मनोवैज्ञानिक चिकित्सा के पुनः स्वस्थ करने वाले कारकों के योगदान को पहचानिए :

- (A) मनोवैज्ञानिक चिकित्सक द्वारा अपनाई गई विधियाँ
- (B) परिवार और चिकित्सक द्वारा दीए गए निर्देश
- (C) एक अच्छी चिकित्सात्मक मैत्री
- (D) सेवार्थी द्वारा चिकित्सक को दी गई उचित सलाह
- (E) सेवार्थी को संवेगों से बाहर निकालना

नीचे दिए गए विकल्पों में से सही उत्तर का चयन कीजिए :

- (1) केवल (A), (C), (E)
- (2) केवल (B), (D), (E)
- (3) केवल (B), (D), (A)
- (4) केवल (E), (A), (B)

Options :

- 212807130301. 1
- 212807130302. 2
- 212807130303. 3
- 212807130304. 4

Question Number : 1047 Question Id : 21280732577 Question Type : MCQ Option Shuffling : No Is Question Mandatory : No Calculator : None Response Time : N.A Think Time : N.A Minimum Instruction Time : 0

Correct Marks : 5 Wrong Marks : 1

Question Key Details :

Key	Value
Comprehension	MCQ

Match List - I with List - II.

List - I

- (A) Cognitive therapy
- (B) Behaviour therapy
- (C) Existential therapy
- (D) Humanistic therapy

List - II

- (I) It considers that question about meaning of one's life leads to problems
- (II) It values one's personal growth
- (III) It challenges the faulty thinking patterns of the client to reduce distress
- (IV) It identifies the faulty conditioning patterns and sets up alternative ways to improve one's responses

Choose the correct answer from the options given below :

- (1) (A)-(III), (B)-(IV), (C)-(I), (D)-(II)
- (2) (A)-(II), (B)-(III), (C)-(IV), (D)-(I)
- (3) (A)-(IV), (B)-(II), (C)-(III), (D)-(I)
- (4) (A)-(II), (B)-(IV), (C)-(III), (D)-(I)

Options :

- 212807130305. 1
- 212807130306. 2
- 212807130307. 3
- 212807130308. 4

Question Number : 1047 Question Id : 21280732577 Question Type : MCQ Option Shuffling : No Is Question Mandatory : No Calculator : None Response Time : N.A Think Time : N.A Minimum Instruction Time : 0

Correct Marks : 5 Wrong Marks : 1

Question Key Details :

Key	Value
Comprehension	MCQ

सूची-I से सूची-II का मिलान कीजिए:

सूची-I

- (A) संज्ञानात्मक चिकित्सा
- (B) व्यवहार परक चिकित्सा
- (C) अस्तित्व परक चिकित्सा
- (D) मानवतावादी चिकित्सा

सूची-II

- (I) यह समझा जाता है कि किसी के जीवन के अर्थवत्ता पर प्रश्न करना, समस्याओं को और बढ़ाता है।
- (II) यह व्यक्ति की बैयक्तिक उन्नति को महत्व देता है।
- (III) सेवार्थी के तनाव को कम करने हेतु, उसके गलत सोचने के तरीके को कम कर देता है
- (IV) गलत सीखने के तरीके को पहचान करता है और अनुक्रियाओं में सुधार के लिए विकल्पों का निर्माण करता है।

नीचे दिए गए विकल्पों में से सही उत्तर का चयन कीजिए :

- (1) (A)-(III), (B)-(IV), (C)-(I), (D)-(II)
- (2) (A)-(II), (B)-(III), (C)-(IV), (D)-(I)
- (3) (A)-(IV), (B)-(II), (C)-(III), (D)-(I)
- (4) (A)-(II), (B)-(IV), (C)-(III), (D)-(I)

Options :

- 212807130305. 1
- 212807130306. 2
- 212807130307. 3
- 212807130308. 4

Question Number : 1048 Question Id : 21280732578 Question Type : MCQ Option Shuffling : No Is Question Mandatory : No Calculator : None Response Time : N.A Think Time : N.A Minimum Instruction Time : 0

Correct Marks : 5 Wrong Marks : 1

Question Key Details :

Key	Value
Comprehension	MCQ

Leena has developed a liking towards the French language because she finds her French teacher very knowledgeable. She rarely misses her French teacher's class and always appreciates the positive qualities which the teacher possessed. This process of attitude formation could be due to :

- (1) Learning through exposure to information
- (2) Learning attitude by being rewarded
- (3) Learning attitude by association
- (4) Learning attitude through personal experience

Options :

- 212807130309. 1
- 212807130310. 2
- 212807130311. 3
- 212807130312. 4

Question Number : 1048 Question Id : 21280732578 Question Type : MCQ Option Shuffling : No Is Question Mandatory : No Calculator : None Response Time : N.A Think Time : N.A Minimum Instruction Time : 0

Correct Marks : 5 Wrong Marks : 1

Question Key Details :

Key	Value
Comprehension	MCQ

लीना का फ्रेंच भाषा के प्रति लगाव हो गया है क्योंकि उसे उसके फ्रेंच अध्यापक बहुत ज्ञानवान लगते हैं। वो शायद ही अपने फ्रेंच अध्यापक की क्लास छोड़ती है, तथा सदैव अपने फ्रेंच अध्यापक के सकारात्मक गुणों की प्रशंसा करती है दृष्टिकोण निर्माण की इस प्रक्रिया के कारण हैं :

- (1) सूचना के प्रभाव से अधिगम
- (2) पुरस्कृत होने के कारण अभिवृत्तियों को सीखना
- (3) साहचर्य द्वारा अभिवृत्तियों का अधिगम
- (4) व्यक्तिगत अनुभवों द्वारा अभिवृत्तियों का अधिगम

Options :

212807130309. 1
212807130310. 2
212807130311. 3
212807130312. 4

Question Number : 1049 Question Id : 21280732579 Question Type : MCQ Option Shuffling : No Is Question Mandatory : No Calculator : None Response Time : N.A Think Time : N.A Minimum Instruction Time : 0

Correct Marks : 5 Wrong Marks : 1

Question Key Details :

Key	Value
Comprehension	MCQ

The _____ mode of message transmission is found to be more effective in bringing about an attitude change.

- (1) Digital
- (2) Pamphlets
- (3) Mass Media
- (4) Face-to-Face

Options :

212807130313. 1
212807130314. 2
212807130315. 3
212807130316. 4

Question Number : 1049 Question Id : 21280732579 Question Type : MCQ Option Shuffling : No Is Question Mandatory : No Calculator : None Response Time : N.A Think Time : N.A Minimum Instruction Time : 0

Correct Marks : 5 Wrong Marks : 1

Question Key Details :

Key	Value
Comprehension	MCQ

अभिवृत्ति परिवर्तन में सूचना पहुँचाने का _____ माध्यम अधिक प्रभावी है।

- (1) डिजीटल
- (2) पैम्फ्लेट
- (3) जनसंचार माध्यम
- (4) आमने-सामने

Options :

212807130313. 1
212807130314. 2
212807130315. 3
212807130316. 4

Question Number : 1050 Question Id : 21280732580 Question Type : MCQ Option Shuffling : No Is Question Mandatory : No Calculator : None Response Time : N.A Think Time : N.A Minimum Instruction Time : 0

Correct Marks : 5 Wrong Marks : 1

Question Key Details :

Key	Value
Comprehension	MCQ

Tuhin had taken a survey where he is required to rate the professional coaching centre that he has enrolled for by using a rating scale. He has given '9' point on a scale of 10 for every statement. Identify the feature of Tuhin's attitude that is reflected on the rating scale.

- (1) Valence
- (2) Extremeness
- (3) Multiplexity
- (4) Centrality

Options :

212807130317. 1
212807130318. 2
212807130319. 3
212807130320. 4

Question Number : 1050 Question Id : 21280732580 Question Type : MCQ Option Shuffling : No Is Question Mandatory : No Calculator : None
Response Time : N.A Think Time : N.A Minimum Instruction Time : 0

Correct Marks : 5 Wrong Marks : 1

Question Key Details :

Key	Value
Comprehension	MCQ

तूहिन ने एक सर्वेक्षण किया जिसमें उसे उस व्यवसायिक कोचिंग केंद्र जिसमें उसने प्रवेश लिया था, को रेटिंग स्केल पर रेटिंग देनी थी। उसने हर कथन में 10 में से 9 अंक दिए। तूहिन की मनोवृत्ति का उल्लेख कीजिए जो रेटिंग स्केल द्वारा परावर्तित होता है।

- (1) कर्षण शक्ति
- (2) चरम सीमा
- (3) बहुविधता
- (4) केन्द्रिकता

Options :

212807130317. 1
212807130318. 2
212807130319. 3
212807130320. 4

Question Number : 1051 Question Id : 21280732581 Question Type : MCQ Option Shuffling : No Is Question Mandatory : No Calculator : None
Response Time : N.A Think Time : N.A Minimum Instruction Time : 0

Correct Marks : 5 Wrong Marks : 1

Question Key Details :

Key	Value
Comprehension	MCQ

Identify the sequence of activities that LaPiere an American Social Psychologist used to understand attitude behaviour relationship.

- (A) A questionnaire was sent to managers asking if they would give accommodation to Chinese guests.
- (B) Many Hotels and Tourist Homes in United States said they will not give accommodation to Chinese
- (C) La-Piere asked a Chinese couple to travel across United State and stay in different hotels
- (D) The hotel staff gave accommodation to Chinese couple
- (E) Only once during these occasions the Chinese couple were refused service by one of the hotels

Choose the correct answer from the options given below :

- (1) (C), (E), (D), (B), (A)
- (2) (A), (B), (D), (E), (C)
- (3) (B), (A), (E), (D), (C)
- (4) (C), (D), (E), (A), (B)

Options :

- 212807130321. 1
- 212807130322. 2
- 212807130323. 3
- 212807130324. 4

Question Number : 1051 Question Id : 21280732581 Question Type : MCQ Option Shuffling : No Is Question Mandatory : No Calculator : None Response Time : N.A Think Time : N.A Minimum Instruction Time : 0

Correct Marks : 5 Wrong Marks : 1

Question Key Details :

Key	Value
Comprehension	MCQ

उन गतिविधियों का क्रम पहचानें जिन्हें एक अमरीकी मनोवैज्ञानिक ला पियर ने अभिवृत्ति-व्यवहार संबंध को समझने के लिए उपयोग किया।

- (A) प्रबंधको के पास प्रश्नावली भेजी गई थी जिसमें चीनी मेहमानों की आवासीय सुविधा के बारे में पूछा गया।
- (B) अमरीका में बहुत सारे होटलो तथा पर्यटक गृहो ने कहा कि वह चीनी लोगों को आवासीय सुविधा नहीं देंगे।
- (C) ला पियर ने एक चीनी दम्पति से कहा कि वह अमरीका का भ्रमण करें तथा भिन्न-भिन्न होटलों में रहें
- (D) होटल स्टाफ ने चीनी दम्पति को आवासीय सुविधा दी
- (E) इस दौरान केवल एक बार चीनी दम्पति को किसी एक होटल ने सुविधाएँ देने से मना किया

नीचे दिए गए विकल्पों में से सही उत्तर का चयन कीजिए :

- (1) (C), (E), (D), (B), (A)
- (2) (A), (B), (D), (E), (C)
- (3) (B), (A), (E), (D), (C)
- (4) (C), (D), (E), (A), (B)

Options :

- 212807130321. 1
- 212807130322. 2
- 212807130323. 3
- 212807130324. 4

Question Number : 1052 Question Id : 21280732582 Question Type : MCQ Option Shuffling : No Is Question Mandatory : No Calculator : None Response Time : N.A Think Time : N.A Minimum Instruction Time : 0

Correct Marks : 5 Wrong Marks : 1

Question Key Details :

Key	Value
Comprehension	MCQ

Identify the factors that influence attitude formation.

- (A) Family and School Environment
- (B) Message Characteristics
- (C) Personal Experiences
- (D) Target Characteristic
- (E) Media-related influences

Choose the correct answer from the options given below :

- (1) (B), (D), (E) only
- (2) (A), (C), (E) only
- (3) (D) and (E) only
- (4) (C), (D), (E) only

Options :

- 212807130325. 1
- 212807130326. 2
- 212807130327. 3
- 212807130328. 4

Question Number : 1052 Question Id : 21280732582 Question Type : MCQ Option Shuffling : No Is Question Mandatory : No Calculator : None Response Time : N.A Think Time : N.A Minimum Instruction Time : 0

Correct Marks : 5 Wrong Marks : 1

Question Key Details :

Key	Value
Comprehension	MCQ

मनोवृत्ति निर्माण को प्रभावित करने वाले कारकों की पहचान करें।

- (A) परिवार तथा विद्यालय का वातावरण
- (B) संदेश की विशेषताएँ
- (C) व्यक्तिगत अनुभव
- (D) लक्ष्य विशेषताएँ
- (E) मीडिया संबंधित प्रभाव

नीचे दिए गए विकल्पों में से सही उत्तर का चयन कीजिए :

- (1) केवल (B), (D), (E)
- (2) केवल (A), (C), (E)
- (3) केवल (D) और (E)
- (4) केवल (C), (D), (E)

Options :

- 212807130325. 1
- 212807130326. 2
- 212807130327. 3
- 212807130328. 4

Question Number : 1053 Question Id : 21280732583 Question Type : MCQ Option Shuffling : No Is Question Mandatory : No Calculator : None Response Time : N.A Think Time : N.A Minimum Instruction Time : 0

Correct Marks : 5 Wrong Marks : 1

Question Key Details :

Key	Value
Comprehension	MCQ

Match List - I with List - II.

List - I

Example

(A) Raghav making inferences about the personal qualities of people

(B) Sheena assigns causes to peoples behaviour shown in specific social situation

(C) Ram's performance improves with the presence of people

(D) Gita loves Yoga as she believes that it is good for her & therefore practices it every day

List - II

Concept

(I) Attribution

(II) Attitude

(III) Impression Formation

(IV) Social Facilitation

Choose the correct answer from the options given below :

(1) (A)-(III), (B)-(I), (C)-(IV), (D)-(II)

(2) (A)-(II), (B)-(III), (C)-(I), (D)-(IV)

(3) (A)-(IV), (B)-(II), (C)-(III), (D)-(I)

(4) (A)-(I), (B)-(II), (C)-(III), (D)-(IV)

Options :

212807130329. 1

212807130330. 2

212807130331. 3

212807130332. 4

Question Number : 1053 Question Id : 21280732583 Question Type : MCQ Option Shuffling : No Is Question Mandatory : No Calculator : None Response Time : N.A Think Time : N.A Minimum Instruction Time : 0

Correct Marks : 5 Wrong Marks : 1

Question Key Details :

Key	Value
Comprehension	MCQ

सूची-I से सूची-II का मिलान कीजिए:

सूची-I

उदाहरण

- (A) राघव लोगों के व्यक्तिगत गुणों का अनुमान लगाता है
(B) शीना, विशिष्ट सामाजिक परिस्थितियों में लोगों का व्यवहार का गुणरोपण करी है।
(C) लोगों की उपस्थिति में राम की योग्यता में सुधार होता है
(D) गीता योगा को पसंद करती है तथा उसे विश्वास है कि यह उसके लिए अच्छा है इसलिए वह प्रतिदिन इसका अभ्यास करती है।

सूची-II

अवधारणा

- (I) गुणरोपण
(II) अभिवृत्ति
(III) छवि निर्माण
(IV) सामाजिक सुगमीकरण

नीचे दिए गए विकल्पों में से सही उत्तर का चयन कीजिए :

- (1) (A)-(III), (B)-(I), (C)-(IV), (D)-(II)
(2) (A)-(II), (B)-(III), (C)-(I), (D)-(IV)
(3) (A)-(IV), (B)-(II), (C)-(III), (D)-(I)
(4) (A)-(I), (B)-(II), (C)-(III), (D)-(IV)

Options :

212807130329. 1
212807130330. 2
212807130331. 3
212807130332. 4

Question Number : 1054 Question Id : 21280732584 Question Type : MCQ Option Shuffling : No Is Question Mandatory : No Calculator : None Response Time : N.A Think Time : N.A Minimum Instruction Time : 0

Correct Marks : 5 Wrong Marks : 1

Question Key Details :

Key	Value
Comprehension	MCQ

The class teacher has asked a group of students to prepare for a presentation on the occasion of "Earth Day" for the class. Among the group members two to three students have put their time and effort for the presentation. On the final day of presentation the entire team stood together. Identify the reason for the members, not putting equal amount of efforts in the preparation of the presentation.

- (1) Group think
(2) Group Polarisation
(3) Social Loafing
(4) Cohesiveness

Options :

212807130333. 1
212807130334. 2
212807130335. 3
212807130336. 4

Question Number : 1054 Question Id : 21280732584 Question Type : MCQ Option Shuffling : No Is Question Mandatory : No Calculator : None Response Time : N.A Think Time : N.A Minimum Instruction Time : 0

Correct Marks : 5 Wrong Marks : 1

Question Key Details :

Key	Value
Comprehension	MCQ

‘पृथ्वी दिवस’ के उपलक्ष्य में कक्षा अध्यापिका ने अपनी कक्षा के एक समूह को प्रस्तुतीकरण तैयार करने के लिए कहा। समूह के सदस्यों में से केवल दो या तीन छात्रों ने अपना समय तथा प्रयास उस प्रस्तुतीकरण के लिए दिए। प्रस्तुतीकरण के अंतिम दिन सभी विद्यार्थी पूर्ण दल के रूप में वहाँ खड़े हो गए। समूह के सदस्यों के उन कारणों को पहचानिए, जिसके द्वारा यह पता चले कि उन्होंने प्रस्तुतीकरण में बराबर का सहयोग नहीं दिया।

- (1) समूह चिंतन
- (2) समूह धुवीकरण
- (3) सामाजिक स्वैराचार
- (4) एकजुटता

Options :

212807130333. 1
212807130334. 2
212807130335. 3
212807130336. 4

Question Number : 1055 Question Id : 21280732585 Question Type : MCQ Option Shuffling : No Is Question Mandatory : No Calculator : None
Response Time : N.A Think Time : N.A Minimum Instruction Time : 0

Correct Marks : 5 Wrong Marks : 1

Question Key Details :

Key	Value
Comprehension	MCQ

A collection of people gathered together to watch a comedy show is an example of :

- (1) Team
- (2) Crowd
- (3) Audience
- (4) Mob

Options :

212807130337. 1
212807130338. 2
212807130339. 3
212807130340. 4

Question Number : 1055 Question Id : 21280732585 Question Type : MCQ Option Shuffling : No Is Question Mandatory : No Calculator : None
Response Time : N.A Think Time : N.A Minimum Instruction Time : 0

Correct Marks : 5 Wrong Marks : 1

Question Key Details :

Key	Value
Comprehension	MCQ

लोगों के समूह का एक हास्य नाटक देखने के लिए इकट्ठा, होना निम्न में से किसका उदाहरण है ?

- (1) दल
- (2) भीड़
- (3) श्रोतागण
- (4) असंयत भीड़

Options :

212807130337. 1
212807130338. 2
212807130339. 3
212807130340. 4

Question Number : 1056 Question Id : 21280732586 Question Type : MCQ Option Shuffling : No Is Question Mandatory : No Calculator : None
Response Time : N.A Think Time : N.A Minimum Instruction Time : 0

Correct Marks : 5 Wrong Marks : 1

Question Key Details :

Key	Value
Comprehension	MCQ

Identify the correct developmental sequence in the formation of a group, as given by Tuckman.

- (A) Forming → Storming → Adjourning → Performing → Norming
(B) Forming → Storming → Norming → Performing → Adjourning
(C) Performing → Storming → Norming → Forming → Adjourning
(D) Performing → Adjourning → Storming → Norming → Forming

Choose the correct answer from the options given below :

- (1) (A)
(2) (C)
(3) (D)
(4) (B)

Options :

212807130341. 1
212807130342. 2
212807130343. 3
212807130344. 4

Question Number : 1056 Question Id : 21280732586 Question Type : MCQ Option Shuffling : No Is Question Mandatory : No Calculator : None
Response Time : N.A Think Time : N.A Minimum Instruction Time : 0

Correct Marks : 5 Wrong Marks : 1

Question Key Details :

Key	Value
Comprehension	MCQ

टुकमन द्वारा दिए गए, समूह के निर्माण के विकासात्मक क्रम की सही पहचान कीजिए।

- (A) निर्माण → झँझावत होना → समापन → निष्पादन करना → मानक निर्माण
(B) निर्माण → झँझावत होना → मानक निर्माण → निष्पादन करना → समापन
(C) निष्पादन करना → झँझावत होना → मानक निर्माण → निर्माण → समापन
(D) निष्पादन करना → समापन → झँझावत होना → मानक निर्माण → निर्माण

नीचे दिए गए विकल्पों में से सही उत्तर का चयन कीजिए :

- (1) (A)
(2) (C)
(3) (D)
(4) (B)

Options :

212807130341. 1
212807130342. 2
212807130343. 3
212807130344. 4

Question Number : 1057 Question Id : 21280732587 Question Type : MCQ Option Shuffling : No Is Question Mandatory : No Calculator : None
Response Time : N.A Think Time : N.A Minimum Instruction Time : 0

Correct Marks : 5 Wrong Marks : 1

Question Key Details :

Key	Value
Comprehension	MCQ

With reference to the reasons for group polarisation among like-minded people choose the correct statements.

- (A) Group polarisation occurs as they feel that their perspective is validated by the public
- (B) Group polarisation occurs as they start identifying with each other after percieving them as a group
- (C) Group polarisation occurs as they have a heterogenous thought process
- (D) Group polarisation occurs as a result of group discussion which strengthens one's initial position
- (E) Group polarisation occurs as a result of pessimistic attitude towards own self

Choose the correct answer from the options given below :

- (1) (A), (C), (E) only
- (2) (A), (B), (D) only
- (3) (B), (D), (E) only
- (4) (C), (D), (E) only

Options :

- 212807130345. 1
- 212807130346. 2
- 212807130347. 3
- 212807130348. 4

Question Number : 1057 Question Id : 21280732587 Question Type : MCQ Option Shuffling : No Is Question Mandatory : No Calculator : None Response Time : N.A Think Time : N.A Minimum Instruction Time : 0

Correct Marks : 5 Wrong Marks : 1

Question Key Details :

Key	Value
Comprehension	MCQ

समान सोच के लोगों के समूह ध्रुवीकरण के संदर्भ के कारणों को ध्यान में रखते हुए सही कथन का चयन कीजिए।

- (A) समूह ध्रुवीकरण तब होता है जब वे महसूस करते हैं कि जनता द्वारा उनके दृष्टिकोण को वैध मानती है
- (B) समूह ध्रुवीकरण तब होता है जब समान विचार के व्यक्तियों को देखते है तो वह उन्हें अंतःसमूह के रूप में गृहण करते हैं
- (C) समूह ध्रुवीकरण तब होता है जब वे विषमांग सोच प्रक्रिया रखते हैं
- (D) समूह ध्रुवीकरण तब होता है जब समूह में विचार-विमर्श द्वारा किसी व्यक्ति की प्रारम्भिक स्थिति प्रबल होती है।
- (E) समूह ध्रुवीकरण तब होता है जब वह स्वयं के प्रति निराशावादी दृष्टिकोण रखते हैं

नीचे दिए गए विकल्पों में से सही उत्तर का चयन कीजिए :

- (1) केवल (A), (C), (E)
- (2) केवल (A), (B), (D)
- (3) केवल (B), (D), (E)
- (4) केवल (C), (D), (E)

Options :

- 212807130345. 1
- 212807130346. 2
- 212807130347. 3
- 212807130348. 4

Question Number : 1058 Question Id : 21280732588 Question Type : MCQ Option Shuffling : No Is Question Mandatory : No Calculator : None Response Time : N.A Think Time : N.A Minimum Instruction Time : 0

Correct Marks : 5 Wrong Marks : 1

Question Key Details :

Key	Value
Comprehension	MCQ

When a criminal beats up a person in the community for mentioning his name to the police he is demonstrating :

- (1) Instrumental aggression
- (2) Hostile aggression
- (3) Verbal aggression
- (4) Pro-active aggression

Options :

212807130349. 1
212807130350. 2
212807130351. 3
212807130352. 4

Question Number : 1058 Question Id : 21280732588 Question Type : MCQ Option Shuffling : No Is Question Mandatory : No Calculator : None
Response Time : N.A Think Time : N.A Minimum Instruction Time : 0

Correct Marks : 5 Wrong Marks : 1

Question Key Details :

Key	Value
Comprehension	MCQ

जब कोई अपराधी समुदाय में किसी व्यक्ति को पीटता है क्योंकि उस व्यक्ति ने पुलिस के सामने उसका नाम लिया है तब वह क्या प्रदर्शित करता है :

- (1) नैमित्तिक आक्रमण
- (2) शत्रुतापूर्ण आक्रमण
- (3) शाब्दिक आक्रमण
- (4) अग्रलक्षी आक्रमण

Options :

212807130349. 1
212807130350. 2
212807130351. 3
212807130352. 4

Question Number : 1059 Question Id : 21280732589 Question Type : MCQ Option Shuffling : No Is Question Mandatory : No Calculator : None
Response Time : N.A Think Time : N.A Minimum Instruction Time : 0

Correct Marks : 5 Wrong Marks : 1

Question Key Details :

Key	Value
Comprehension	MCQ

Arrange in sequence the four kinds of interpersonal physical distance from closest to distant/farthest.

- (A) Social distance
- (B) Personal distance
- (C) Intimate distance
- (D) Public distance

Choose the correct answer from the options given below :

- (1) (C), (B), (A), (D)
- (2) (B), (C), (A), (D)
- (3) (B), (C), (D), (A)
- (4) (C), (A), (B), (D)

Options :

- 212807130353. 1
- 212807130354. 2
- 212807130355. 3
- 212807130356. 4

Question Number : 1059 Question Id : 21280732589 Question Type : MCQ Option Shuffling : No Is Question Mandatory : No Calculator : None Response Time : N.A Think Time : N.A Minimum Instruction Time : 0

Correct Marks : 5 Wrong Marks : 1

Question Key Details :

Key	Value
Comprehension	MCQ

अंतर्व्यक्तिव भौतिक दूरी के चारों प्रकारों को समीप से दूर तक के क्रम में व्यवस्थित करें।

- (A) सामाजिक दूरी
- (B) व्यक्तिगत दूरी
- (C) अतरंग दूरी
- (D) सार्वजनिक दूरी

नीचे दिए गए विकल्पों में से सही उत्तर का चयन कीजिए :

- (1) (C), (B), (A), (D)
- (2) (B), (C), (A), (D)
- (3) (B), (C), (D), (A)
- (4) (C), (A), (B), (D)

Options :

- 212807130353. 1
- 212807130354. 2
- 212807130355. 3
- 212807130356. 4

Question Number : 1060 Question Id : 21280732590 Question Type : MCQ Option Shuffling : No Is Question Mandatory : No Calculator : None Response Time : N.A Think Time : N.A Minimum Instruction Time : 0

Correct Marks : 5 Wrong Marks : 1

Question Key Details :

Key	Value
Comprehension	MCQ

Sohna had to take a decision of whether to join her circle of friends, when they smoke or raise her voice against the vicious practice. She was indulging in _____.

- (1) Interpersonal Communication
- (2) Intrapersonal Communication
- (3) Public Communication
- (4) Paraphrasing

Options :

212807130357. 1
212807130358. 2
212807130359. 3
212807130360. 4

Question Number : 1060 Question Id : 21280732590 Question Type : MCQ Option Shuffling : No Is Question Mandatory : No Calculator : None
Response Time : N.A Think Time : N.A Minimum Instruction Time : 0

Correct Marks : 5 Wrong Marks : 1

Question Key Details :

Key	Value
Comprehension	MCQ

सोहना को यह निर्णय लेना है, कि धूम्रपान या कट्टु व्यवहार के प्रति आवाज उठाने के लिए। वह अपने मित्रों की मंडली का हिस्सा बनेगी निम्न में से वो क्या कर रही थी :

- (1) अंतर्व्यैक्तिक संप्रेषण
- (2) अंतराव्यैक्तिक संप्रेषण
- (3) सार्वजनिक संप्रेषण
- (4) पुनर्वाक्यविन्यास

Options :

212807130357. 1
212807130358. 2
212807130359. 3
212807130360. 4

Sub-Section Number : 2
Sub-Section Id : 2128072548
Question Shuffling Allowed : No
Is Section Default? : null

Question Number : 1061 Question Id : 21280732591 Question Type : MCQ Option Shuffling : No Is Question Mandatory : No Calculator : None
Response Time : N.A Think Time : N.A Minimum Instruction Time : 0

Correct Marks : 5 Wrong Marks : 1

Question Key Details :

Key	Value
Comprehension	Compl

Read the passage below and answer the following question :

BEHAVIOURAL AND PSYCHOLOGICAL CORRELATES OF ILLNESS : THE EFFECTS OF THOUGHTS AND ACTIONS ON HEALTH

- Cancer is actually a group of diseases characterized by a loss of some cells' ability to function normally. These cells typically multiply rapidly, generating tumours.
- Individual differences in people's reaction to nicotine, the addictive substance in tobacco, help determine who will become a smoker.
- Both smoking and passive smoking are implicated in many cancers, in cardiovascular disease, and in sickness among children. Poor diet can raise our risks of cancer of the colon and rectum, breast cancer, and cardiovascular disease. Heavy drinking can cause disease of the stomach, liver and intestines. It can also impair mental and sexual functioning, and it can result in fetal alcohol syndrome.
- Inadequate emotional expression can adversely affect the progression of cancer. Emotions also affect high blood pressure.
- Persons who tend to be competitive, aggressive, hostile, and impatient are displaying a pattern of behaviours termed Type A. Cynical hostility puts Type A persons most at risk for heart attacks.
- Acquired Immuno Deficiency Syndrome (AIDS) is a reduction in the immune system's ability to defend itself against foreign matter. AIDS is transmitted primarily through unprotected sex and infected blood.

Which cells are attacked by the Human Immuno Deficiency Virus (HIV) causing Acquired Immuno Deficiency Syndrome (AIDS) ?

- (1) B cells
- (2) T-helper cells
- (3) Natural Killer cells
- (4) leucocytes

Options :

- 212807130361. 1
- 212807130362. 2
- 212807130363. 3
- 212807130364. 4

Question Number : 1061 Question Id : 21280732591 Question Type : MCQ Option Shuffling : No Is Question Mandatory : No Calculator : None Response Time : N.A Think Time : N.A Minimum Instruction Time : 0

Correct Marks : 5 Wrong Marks : 1

Question Key Details :

Key	Value
Comprehension	Compl

निम्नलिखित अनुच्छेद को पढ़िये और दिये गए प्रश्न के उत्तर दीजिए :

रोग के व्यवहारिक एवं मनोवैज्ञानिक संबंध : स्वास्थ्य पर विचारों और कार्यों का प्रभाव

- कैंसर वास्तव में रोगों का एक समूह है जिसको कुछ कोशिकाओं की सामान्य रूप से कार्य कर पाने की योग्यता में ह्रास के रूप में दर्शाया जाता है। ये कोशिकाएं सामान्यतः तेजी से गुणित होती और ट्यूमर पैदा करती हैं।
- निकोटिन, तंबाकू में नशीला पदार्थ के प्रति लोगों की अनुक्रिया में व्यक्तिगत विभेद यह निर्धारित करते हैं कि कौन धूम्रपान करने वाला बनेगा।
- धूम्रपान और निष्क्रिय धूम्रपान दोनों ही कई तरह के कैंसर, हृदय रोग और बच्चों की बीमारियों में शामिल हैं। खराब खानपान कोलन और मलाशय के कैंसर, स्तन कैंसर और हृदय रोग के जोखिम को बढ़ाता है। बहुत अधिक मद्यपान पेट, यकृत और आंतों के रोग का कारण बन सकता है। यह मानसिक और यौन क्रियात्मकता को भी क्षति पहुंचा सकता है तथा इसका परिणाम भ्रूण मद्य सिंड्रोम होता है।
- अपर्याप्त भावात्मक अभिव्यक्ति कैंसर की प्रगति को नकारात्मक रूप से प्रभावित कर सकती है। संवेग उच्च रक्त चाप को भी प्रभावित करते हैं।
- वे लोग जो प्रतिस्पर्धी, आक्रामक विरोधी और अधीर होते हैं टाइप A प्रकार के व्यवहार प्रतिरूपों को प्रदर्शित करते हैं। द्वेषपूर्ण शत्रुता टाइप A प्रकार के लोगों को हृदयाघात के अधिक जोखिम पर रखती हैं।
- Acquired Immuno Deficiency Syndrome (AIDS) प्रतिरोधी तंत्र की बाहरी आघातों से प्रतिरोध क्षमता में ह्रास है। AIDS मुख्य रूप से असुरक्षित यौन संबंध और दूषित रक्त से संचारित होता है।

कौन-सी कोशिकाओं पर ह्यूमन इम्यूनों डेफिशियेंसी वायरस द्वारा आक्रमण किया जाता है जिसका परिणाम एक्वायरड इम्यूनों डेफिशियेंसी सिंड्रोम (AIDS) होता है?

- (1) B कोशिकाएं
- (2) T-सहायक कोशिकाएँ
- (3) प्राकृतिक रूप से नष्ट करने वाली कोशिकाएँ
- (4) श्वेताणु

Options :

212807130361. 1
212807130362. 2
212807130363. 3
212807130364. 4

Question Number : 1062 Question Id : 21280732592 Question Type : MCQ Option Shuffling : No Is Question Mandatory : No Calculator : None Response Time : N.A Think Time : N.A Minimum Instruction Time : 0

Correct Marks : 5 Wrong Marks : 1

Question Key Details :

Key	Value
Comprehension	Comp1

Read the passage below and answer the following question :

BEHAVIOURAL AND PSYCHOLOGICAL CORRELATES OF ILLNESS : THE EFFECTS OF THOUGHTS AND ACTIONS ON HEALTH

- Cancer is actually a group of diseases characterized by a loss of some cells' ability to function normally. These cells typically multiply rapidly, generating tumours.
- Individual differences in people's reaction to nicotine, the addictive substance in tobacco, help determine who will become a smoker.
- Both smoking and passive smoking are implicated in many cancers, in cardiovascular disease, and in sickness among children. Poor diet can raise our risks of cancer of the colon and rectum, breast cancer, and cardiovascular disease. Heavy drinking can cause disease of the stomach, liver and intestines. It can also impair mental and sexual functioning, and it can result in fetal alcohol syndrome.
- Inadequate emotional expression can adversely affect the progression of cancer. Emotions also affect high blood pressure.
- Persons who tend to be competitive, aggressive, hostile, and impatient are displaying a pattern of behaviours termed Type A. Cynical hostility puts Type A persons most at risk for heart attacks.
- Acquired Immuno Deficiency Syndrome (AIDS) is a reduction in the immune system's ability to defend itself against foreign matter. AIDS is transmitted primarily through unprotected sex and infected blood.

_____ can affect natural killer cell cytotoxicity which is important in the defence against various infections and cancer.

- (1) Perception
- (2) Emotions
- (3) Stress
- (4) Infection

Options :

- 212807130365. 1
- 212807130366. 2
- 212807130367. 3
- 212807130368. 4

Question Number : 1062 Question Id : 21280732592 Question Type : MCQ Option Shuffling : No Is Question Mandatory : No Calculator : None Response Time : N.A Think Time : N.A Minimum Instruction Time : 0

Correct Marks : 5 Wrong Marks : 1

Question Key Details :

Key	Value
Comprehension	Comp1

निम्नलिखित अनुच्छेद को पढ़िये और दिये गए प्रश्न के उत्तर दीजिए :

रोग के व्यवहारिक एवं मनोवैज्ञानिक संबंध : स्वास्थ्य पर विचारों और कार्यों का प्रभाव

- कैंसर वास्तव में रोगों का एक समूह है जिसको कुछ कोशिकाओं की सामान्य रूप से कार्य कर पाने की योग्यता में ह्रास के रूप में दर्शाया जाता है। ये कोशिकाएं सामान्यतः तेजी से गुणित होती और ट्यूमर पैदा करती हैं।
- निकोटिन, तंबाकू में नशीला पदार्थ के प्रति लोगों की अनुक्रिया में व्यक्तिगत विभेद यह निर्धारित करते हैं कि कौन धूम्रपान करने वाला बनेगा।
- धूम्रपान और निष्क्रिय धूम्रपान दोनों ही कई तरह के कैंसर, हृदय रोग और बच्चों की बीमारियों में शामिल हैं। खराब खानपान कोलेजन और मलाशय के कैंसर, स्तन कैंसर और हृदय रोग के जोखिम को बढ़ाता है। बहुत अधिक मद्यपान पेट, यकृत और आंतों के रोग का कारण बन सकता है। यह मानसिक और यौन क्रियात्मकता को भी क्षति पहुंचा सकता है तथा इसका परिणाम भ्रूण मद्य सिंड्रोम होता है।
- अपर्याप्त भावात्मक अभिव्यक्ति कैंसर की प्रगति को नकारात्मक रूप से प्रभावित कर सकती है। संवेग उच्च रक्त चाप को भी प्रभावित करते हैं।
- वे लोग जो प्रतिस्पर्धी, आक्रामक विरोधी और अधीर होते हैं टाइप A प्रकार के व्यवहार प्रतिरूपों को प्रदर्शित करते हैं। द्वेषपूर्ण शत्रुता टाइप A प्रकार के लोगों को हृदयाघात के अधिक जोखिम पर रखती हैं।
- Acquired Immuno Deficiency Syndrome (AIDS) प्रतिरोधी तंत्र की बाहरी आघातों से प्रतिरोध क्षमता में ह्रास है। AIDS मुख्य रूप से असुरक्षित यौन संबंध और दूषित रक्त से संचारित होता है।

_____ प्राकृतिक रूप से नष्ट करने वाली कोशिकाओं की कोशिका विषाक्तता को प्रभावित कर सकता है जो कि विभिन्न संक्रमणों एवं कैंसर के प्रतिरोध हेतु महत्वपूर्ण है।

- (1) प्रत्यक्षण
- (2) संवेग
- (3) दबाव
- (4) संक्रमण

Options :

212807130365. 1
212807130366. 2
212807130367. 3
212807130368. 4

Question Number : 1063 Question Id : 21280732593 Question Type : MCQ Option Shuffling : No Is Question Mandatory : No Calculator : None Response Time : N.A Think Time : N.A Minimum Instruction Time : 0

Correct Marks : 5 Wrong Marks : 1

Question Key Details :

Key	Value
Comprehension	Comp1

Read the passage below and answer the following question :

BEHAVIOURAL AND PSYCHOLOGICAL CORRELATES OF ILLNESS : THE EFFECTS OF THOUGHTS AND ACTIONS ON HEALTH

- Cancer is actually a group of diseases characterized by a loss of some cells' ability to function normally. These cells typically multiply rapidly, generating tumours.
- Individual differences in people's reaction to nicotine, the addictive substance in tobacco, help determine who will become a smoker.
- Both smoking and passive smoking are implicated in many cancers, in cardiovascular disease, and in sickness among children. Poor diet can raise our risks of cancer of the colon and rectum, breast cancer, and cardiovascular disease. Heavy drinking can cause disease of the stomach, liver and intestines. It can also impair mental and sexual functioning, and it can result in fetal alcohol syndrome.
- Inadequate emotional expression can adversely affect the progression of cancer. Emotions also affect high blood pressure.
- Persons who tend to be competitive, aggressive, hostile, and impatient are displaying a pattern of behaviours termed Type A. Cynical hostility puts Type A persons most at risk for heart attacks.
- Acquired Immuno Deficiency Syndrome (AIDS) is a reduction in the immune system's ability to defend itself against foreign matter. AIDS is transmitted primarily through unprotected sex and infected blood.

Psychoneuroimmunology focuses on the links between the mind, the _____ and the immune system.

- (1) cells
- (2) brain
- (3) blood
- (4) heart

Options :

- 212807130369. 1
- 212807130370. 2
- 212807130371. 3
- 212807130372. 4

Question Number : 1063 Question Id : 21280732593 Question Type : MCQ Option Shuffling : No Is Question Mandatory : No Calculator : None Response Time : N.A Think Time : N.A Minimum Instruction Time : 0

Correct Marks : 5 Wrong Marks : 1

Question Key Details :

Key	Value
Comprehension	Comp1

निम्नलिखित अनुच्छेद को पढ़िये और दिये गए प्रश्न के उत्तर दीजिए :

रोग के व्यवहारिक एवं मनोवैज्ञानिक संबंध : स्वास्थ्य पर विचारों और कार्यों का प्रभाव

- कैंसर वास्तव में रोगों का एक समूह है जिसको कुछ कोशिकाओं की सामान्य रूप से कार्य कर पाने की योग्यता में ह्रास के रूप में दर्शाया जाता है। ये कोशिकाएं सामान्यतः तेजी से गुणित होती और ट्यूमर पैदा करती हैं।
- निकोटिन, तंबाकू में नशीला पदार्थ के प्रति लोगों की अनुक्रिया में व्यक्तिगत विभेद यह निर्धारित करते हैं कि कौन धूम्रपान करने वाला बनेगा।
- धूम्रपान और निष्क्रिय धूम्रपान दोनों ही कई तरह के कैंसर, हृदय रोग और बच्चों की बीमारियों में शामिल हैं। खराब खानपान कोलेजन और मलाशय के कैंसर, स्तन कैंसर और हृदय रोग के जोखिम को बढ़ाता है। बहुत अधिक मद्यपान पेट, यकृत और आंतों के रोग का कारण बन सकता है। यह मानसिक और यौन क्रियात्मकता को भी क्षति पहुंचा सकता है तथा इसका परिणाम भ्रूण मद्य सिंड्रोम होता है।
- अपर्याप्त भावात्मक अभिव्यक्ति कैंसर की प्रगति को नकारात्मक रूप से प्रभावित कर सकती है। संवेग उच्च रक्त चाप को भी प्रभावित करते हैं।
- वे लोग जो प्रतिस्पर्धी, आक्रामक विरोधी और अधीर होते हैं टाइप A प्रकार के व्यवहार प्रतिरूपों को प्रदर्शित करते हैं। द्वेषपूर्ण शत्रुता टाइप A प्रकार के लोगों को हृदयाघात के अधिक जोखिम पर रखती है।
- Acquired Immuno Deficiency Syndrome (AIDS) प्रतिरोधी तंत्र की बाहरी आघातों से प्रतिरोध क्षमता में ह्रास है। AIDS मुख्य रूप से असुरक्षित यौन संबंध और दूषित रक्त से संचारित होता है।

मनस्तंत्रिका रोग प्रतिरक्षा विज्ञान मन, _____ और प्रतिरक्षा तंत्र के मध्य संबंध पर केंद्रित होता है।

- (1) कोशिका
- (2) मस्तिष्क
- (3) रक्त
- (4) हृदय

Options :

212807130369. 1
212807130370. 2
212807130371. 3
212807130372. 4

Question Number : 1064 Question Id : 21280732594 Question Type : MCQ Option Shuffling : No Is Question Mandatory : No Calculator : None
Response Time : N.A Think Time : N.A Minimum Instruction Time : 0

Correct Marks : 5 Wrong Marks : 1

Question Key Details :

Key	Value
Comprehension	Compl

Read the passage below and answer the following question :

BEHAVIOURAL AND PSYCHOLOGICAL CORRELATES OF ILLNESS : THE EFFECTS OF THOUGHTS AND ACTIONS ON HEALTH

- Cancer is actually a group of diseases characterized by a loss of some cells' ability to function normally. These cells typically multiply rapidly, generating tumours.
- Individual differences in people's reaction to nicotine, the addictive substance in tobacco, help determine who will become a smoker.
- Both smoking and passive smoking are implicated in many cancers, in cardiovascular disease, and in sickness among children. Poor diet can raise our risks of cancer of the colon and rectum, breast cancer, and cardiovascular disease. Heavy drinking can cause disease of the stomach, liver and intestines. It can also impair mental and sexual functioning, and it can result in fetal alcohol syndrome.
- Inadequate emotional expression can adversely affect the progression of cancer. Emotions also affect high blood pressure.
- Persons who tend to be competitive, aggressive, hostile, and impatient are displaying a pattern of behaviours termed Type A. Cynical hostility puts Type A persons most at risk for heart attacks.
- Acquired Immuno Deficiency Syndrome (AIDS) is a reduction in the immune system's ability to defend itself against foreign matter. AIDS is transmitted primarily through unprotected sex and infected blood.

Individuals who suppress their negative emotions are unassertive and show compliance to authority, are prone to cancer and are classified as _____ personality.

- (1) Type - A
- (2) Type - B
- (3) Type - C
- (4) Type - D

Options :

- 212807130373. 1
- 212807130374. 2
- 212807130375. 3
- 212807130376. 4

Question Number : 1064 Question Id : 21280732594 Question Type : MCQ Option Shuffling : No Is Question Mandatory : No Calculator : None Response Time : N.A Think Time : N.A Minimum Instruction Time : 0

Correct Marks : 5 Wrong Marks : 1

Question Key Details :

Key	Value
Comprehension	Comp1

निम्नलिखित अनुच्छेद को पढ़िये और दिये गए प्रश्न के उत्तर दीजिए :

रोग के व्यवहारिक एवं मनोवैज्ञानिक संबंध : स्वास्थ्य पर विचारों और कार्यों का प्रभाव

- कैंसर वास्तव में रोगों का एक समूह है जिसको कुछ कोशिकाओं की सामान्य रूप से कार्य कर पाने की योग्यता में ह्रास के रूप में दर्शाया जाता है। ये कोशिकाएं सामान्यतः तेजी से गुणित होती और ट्यूमर पैदा करती हैं।
- निकोटिन, तंबाकू में नशीला पदार्थ के प्रति लोगों की अनुक्रिया में व्यक्तिगत विभेद यह निर्धारित करते हैं कि कौन धूम्रपान करने वाला बनेगा।
- धूम्रपान और निष्क्रिय धूम्रपान दोनों ही कई तरह के कैंसर, हृदय रोग और बच्चों की बीमारियों में शामिल हैं। खराब खानपान कोलेजन और मलाशय के कैंसर, स्तन कैंसर और हृदय रोग के जोखिम को बढ़ाता है। बहुत अधिक मद्यपान पेट, यकृत और आंतों के रोग का कारण बन सकता है। यह मानसिक और यौन क्रियात्मकता को भी क्षति पहुंचा सकता है तथा इसका परिणाम भ्रूण मद्य सिंड्रोम होता है।
- अपर्याप्त भावात्मक अभिव्यक्ति कैंसर की प्रगति को नकारात्मक रूप से प्रभावित कर सकती है। संवेग उच्च रक्त चाप को भी प्रभावित करते हैं।
- वे लोग जो प्रतिस्पर्धी, आक्रामक विरोधी और अधीर होते हैं टाइप A प्रकार के व्यवहार प्रतिकारकों को प्रदर्शित करते हैं। द्वेषपूर्ण शत्रुता टाइप A प्रकार के लोगों को हृदयाघात के अधिक जोखिम पर रखती है।
- Acquired Immuno Deficiency Syndrome (AIDS) प्रतिरोधी तंत्र की बाहरी आघातों से प्रतिरोध क्षमता में ह्रास है। AIDS मुख्य रूप से असुरक्षित यौन संबंध और दूषित रक्त से संचारित होता है।

वे व्यक्ति जो अपने नकारात्मक संवेगों को दबाते हैं अदृढ़ होते हैं और सत्ता का अनुपालन दर्शाते हैं उनको कैंसर होने की संभावना होती है और उन्हें _____ व्यक्तित्व में वर्गीकृत किया जाता है।

- (1) टाइप - A
- (2) टाइप - B
- (3) टाइप - C
- (4) टाइप - D

Options :

212807130373. 1
212807130374. 2
212807130375. 3
212807130376. 4

Question Number : 1065 Question Id : 21280732595 Question Type : MCQ Option Shuffling : No Is Question Mandatory : No Calculator : None
Response Time : N.A Think Time : N.A Minimum Instruction Time : 0

Correct Marks : 5 Wrong Marks : 1

Question Key Details :

Key	Value
Comprehension	Comp1

Read the passage below and answer the following question :

BEHAVIOURAL AND PSYCHOLOGICAL CORRELATES OF ILLNESS : THE EFFECTS OF THOUGHTS AND ACTIONS ON HEALTH

- Cancer is actually a group of diseases characterized by a loss of some cells' ability to function normally. These cells typically multiply rapidly, generating tumours.
- Individual differences in people's reaction to nicotine, the addictive substance in tobacco, help determine who will become a smoker.
- Both smoking and passive smoking are implicated in many cancers, in cardiovascular disease, and in sickness among children. Poor diet can raise our risks of cancer of the colon and rectum, breast cancer, and cardiovascular disease. Heavy drinking can cause disease of the stomach, liver and intestines. It can also impair mental and sexual functioning, and it can result in fetal alcohol syndrome.
- Inadequate emotional expression can adversely affect the progression of cancer. Emotions also affect high blood pressure.
- Persons who tend to be competitive, aggressive, hostile, and impatient are displaying a pattern of behaviours termed Type A. Cynical hostility puts Type A persons most at risk for heart attacks.
- Acquired Immuno Deficiency Syndrome (AIDS) is a reduction in the immune system's ability to defend itself against foreign matter. AIDS is transmitted primarily through unprotected sex and infected blood.

Increased intake of addictive substance like nicotine tobacco and alcohol due to stress is a/an _____ effect of stress on psychological functioning and health.

- (1) Emotional
- (2) Physiological
- (3) Cognitive
- (4) Behavioural

Options :

- 212807130377. 1
- 212807130378. 2
- 212807130379. 3
- 212807130380. 4

Question Number : 1065 Question Id : 21280732595 Question Type : MCQ Option Shuffling : No Is Question Mandatory : No Calculator : None Response Time : N.A Think Time : N.A Minimum Instruction Time : 0

Correct Marks : 5 Wrong Marks : 1

Question Key Details :

Key	Value
Comprehension	Comp1

निम्नलिखित अनुच्छेद को पढ़िये और दिये गए प्रश्न के उत्तर दीजिए :

रोग के व्यवहारिक एवं मनोवैज्ञानिक संबंध : स्वास्थ्य पर विचारों और कार्यों का प्रभाव

- कैंसर वास्तव में रोगों का एक समूह है जिसको कुछ कोशिकाओं की सामान्य रूप से कार्य कर पाने की योग्यता में ह्रास के रूप में दर्शाया जाता है। ये कोशिकाएं सामान्यतः तेजी से गुणित होती और ट्यूमर पैदा करती हैं।
- निकोटिन, तंबाकू में नशीला पदार्थ के प्रति लोगों की अनुक्रिया में व्यक्तिगत विभेद यह निर्धारित करते हैं कि कौन धूम्रपान करने वाला बनेगा।
- धूम्रपान और निष्क्रिय धूम्रपान दोनों ही कई तरह के कैंसर, हृदय रोग और बच्चों की बीमारियों में शामिल हैं। खराब खानपान कोलेजन और मलाशय के कैंसर, स्तन कैंसर और हृदय रोग के जोखिम को बढ़ाता है। बहुत अधिक मद्यपान पेट, यकृत और आंतों के रोग का कारण बन सकता है। यह मानसिक और यौन क्रियात्मकता को भी क्षति पहुंचा सकता है तथा इसका परिणाम भ्रूण मद्य सिंड्रोम होता है।
- अपर्याप्त भावात्मक अभिव्यक्ति कैंसर की प्रगति को नकारात्मक रूप से प्रभावित कर सकती है। संवेग उच्च रक्त चाप को भी प्रभावित करते हैं।
- वे लोग जो प्रतिस्पर्धी, आक्रामक विरोधी और अधीर होते हैं टाइप A प्रकार के व्यवहार प्रतिरूपों को प्रदर्शित करते हैं। द्वेषपूर्ण शत्रुता टाइप A प्रकार के लोगों को हृदयाघात के अधिक जोखिम पर रखती हैं।
- Acquired Immuno Deficiency Syndrome (AIDS) प्रतिरोधी तंत्र की बाहरी आघातों से प्रतिरोध क्षमता में ह्रास है। AIDS मुख्य रूप से असुरक्षित यौन संबंध और दूषित रक्त से संचारित होता है।

तनाव के कारण मद्यपान, निकोटिन तंबाकू जैसे नशीले पदार्थों का अधिक सेवन, स्वास्थ्य और मनोवैज्ञानिक क्रियात्मकता पर तनाव का _____ प्रभाव है।

- (1) सांवेगिक
- (2) दैहिक
- (3) संज्ञानात्मक
- (4) व्यवहारिक

Options :

212807130377. 1
212807130378. 2
212807130379. 3
212807130380. 4

Sub-Section Number : 3
Sub-Section Id : 2128072549
Question Shuffling Allowed : No
Is Section Default? : null

Question Number : 1066 Question Id : 21280732596 Question Type : MCQ Option Shuffling : No Is Question Mandatory : No Calculator : None
Response Time : N.A Think Time : N.A Minimum Instruction Time : 0

Correct Marks : 5 Wrong Marks : 1

Question Key Details :

Key	Value
Comprehension	Comp2

Read the passage and answer the question follow :

Brijesh is 25 years old autorickshaw driver. He has continuous feelings of insecurity and believes that the police in the area is tracking and following him. The patrolling of the police makes him feel that they are monitoring his behaviour minutely. The intense anxiety about this is interfering with his work and relationship and his family and friends are all worried for him. Brijesh laughs abruptly and inappropriately and sometimes stops speaking mid sentence and stares into nothingness as he appears to see or hear something that is not present.

Identify the symptom Brijesh is showing :

- (1) Positive symptoms
- (2) Negative symptoms
- (3) Both Positive and Negative symptoms
- (4) Psychomotor symptoms

Options :

212807130381. 1
212807130382. 2
212807130383. 3
212807130384. 4

Question Number : 1066 Question Id : 21280732596 Question Type : MCQ Option Shuffling : No Is Question Mandatory : No Calculator : None Response Time : N.A Think Time : N.A Minimum Instruction Time : 0

Correct Marks : 5 Wrong Marks : 1

Question Key Details :

Key	Value
Comprehension	Comp2

निम्नलिखित अनुच्छेद को पढ़िये और दिये गए प्रश्न के उत्तर दीजिए :

ब्रिजेश 25 वर्ष का ऑटोरिक्शा चालक है। उसे लगातार महसूस और विश्वास होता है कि उस क्षेत्र की पुलिस उस पर नजर रखती है तथा उसका पीछा करती है। पुलिस की गश्त से उसे यह महसूस होता है कि उसके व्यवहार पर बारीकी से नजर रखी जा रही है। उसके इस गंभीर भय के कारण उसके पारिवारिक संबंधों तथा काम में अड़चनें आ रही हैं तथा उसका परिवार और मित्र सभी उसके प्रति चिंताग्रस्त हैं। ब्रिजेश बहुत बार अप्रत्याशित ढंग से तथा अनुपयुक्त तरीके से हंसता है, कभी-कभी बात करते करते रुक जाता है और शून्य में घूरता है जैसे कि उसे कुछ दिखाई और सुनाई दे रहा है जो कि वहाँ उपस्थित नहीं है।

ब्रिजेश के दिखने वाले लक्षण को पहचानिए :

- (1) सकारात्मक लक्षण
- (2) नकारात्मक लक्षण
- (3) दोनों, सकारात्मक तथा नकारात्मक लक्षण
- (4) मन:चलित लक्षण

Options :

212807130381. 1
212807130382. 2
212807130383. 3
212807130384. 4

Question Number : 1067 Question Id : 21280732597 Question Type : MCQ Option Shuffling : No Is Question Mandatory : No Calculator : None Response Time : N.A Think Time : N.A Minimum Instruction Time : 0

Correct Marks : 5 Wrong Marks : 1

Question Key Details :

Key	Value
Comprehension	Comp2

Read the passage and answer the question follow :

Brijesh is 25 years old autorickshaw driver. He has continuous feelings of insecurity and believes that the police in the area is tracking and following him. The patrolling of the police makes him feel that they are monitoring his behaviour minutely. The intense anxiety about this is interfering with his work and relationship and his family and friends are all worried for him. Brijesh laughs abruptly and inappropriately and sometimes stops speaking mid sentence and stares into nothingness as he appears to see or hear something that is not present.

Identify the reason, Brijesh laughed abruptly and inappropriately :

- (1) due to inappropriate affect
- (2) due to flat affect
- (3) due to blunt affect
- (4) due to avolition

Options :

212807130385. 1
212807130386. 2
212807130387. 3
212807130388. 4

Question Number : 1067 Question Id : 21280732597 Question Type : MCQ Option Shuffling : No Is Question Mandatory : No Calculator : None Response Time : N.A Think Time : N.A Minimum Instruction Time : 0

Correct Marks : 5 Wrong Marks : 1

Question Key Details :

Key	Value
Comprehension	Comp2

निम्नलिखित अनुच्छेद को पढ़िये और दिये गए प्रश्न के उत्तर दीजिए :

ब्रिजेश 25 वर्ष का ऑटोरिक्शा चालक है। उसे लगातार महसूस और विश्वास होता है कि उस क्षेत्र की पुलिस उस पर नजर रखती है तथा उसका पीछा करती है। पुलिस की गश्त से उसे यह महसूस होता है कि उसके व्यवहार पर बारीकी से नजर रखी जा रही है। उसके इस गंभीर भय के कारण उसके पारिवारिक संबंधों तथा काम में अड़चनें आ रही हैं तथा उसका परिवार और मित्र सभी उसके प्रति चिंताग्रस्त हैं। ब्रिजेश बहुत बार अप्रत्याशित ढंग से तथा अनुपयुक्त तरीके से हंसता है, कभी-कभी बात करते करते रुक जाता है और शून्य में घूरता है जैसे कि उसे कुछ दिखाई और सुनाई दे रहा है जो कि वहाँ उपस्थित नहीं है।

ब्रिजेश के अप्रत्याशित तथा अनुपयुक्त ढंग से हंसने का कारण पहचानिए :

- (1) अनुपयुक्त भाव के कारण
- (2) कुठित भाव के कारण
- (3) विसंगत भाव के कारण
- (4) इच्छा शक्ति न्यूनता

Options :

212807130385. 1
212807130386. 2
212807130387. 3
212807130388. 4

Question Number : 1068 Question Id : 21280732598 Question Type : MCQ Option Shuffling : No Is Question Mandatory : No Calculator : None Response Time : N.A Think Time : N.A Minimum Instruction Time : 0

Correct Marks : 5 Wrong Marks : 1

Question Key Details :

Key	Value
Comprehension	Comp2

Read the passage and answer the question follow :

Brijesh is 25 years old autorickshaw driver. He has continuous feelings of insecurity and believes that the police in the area is tracking and following him. The patrolling of the police makes him feel that they are monitoring his behaviour minutely. The intense anxiety about this is interfering with his work and relationship and his family and friends are all worried for him. Brijesh laughs abruptly and inappropriately and sometimes stops speaking mid sentence and stares into nothingness as he appears to see or hear something that is not present.

He has continuous feeling of insecurity and believes that the police of that area is tracking and following him. This is related to :

- (1) Hallucination
- (2) Delusion of grandeur
- (3) Delusion of persecution
- (4) Delusion of control

Options :

212807130389. 1

212807130390. 2

212807130391. 3

212807130392. 4

Question Number : 1068 Question Id : 21280732598 Question Type : MCQ Option Shuffling : No Is Question Mandatory : No Calculator : None Response Time : N.A Think Time : N.A Minimum Instruction Time : 0

Correct Marks : 5 Wrong Marks : 1

Question Key Details :

Key	Value
Comprehension	Comp2

निम्नलिखित अनुच्छेद को पढ़िये और दिये गए प्रश्न के उत्तर दीजिए :

ब्रिजेश 25 वर्ष का ऑटोरिक्शा चालक है। उसे लगातार महसूस और विश्वास होता है कि उस क्षेत्र की पुलिस उस पर नजर रखती है तथा उसका पीछा करती है। पुलिस की गश्त से उसे यह महसूस होता है कि उसके व्यवहार पर बारीकी से नजर रखी जा रही है। उसके इस गंभीर भय के कारण उसके पारिवारिक संबंधों तथा काम में अड़चनें आ रही हैं तथा उसका परिवार और मित्र सभी उसके प्रति चिंताग्रस्त हैं। ब्रिजेश बहुत बार अप्रत्याशित ढंग से तथा अनुपयुक्त तरीके से हंसता है, कभी-कभी बात करते करते रुक जाता है और शून्य में घूरता है जैसे कि उसे कुछ दिखाई और सुनाई दे रहा है जो कि वहाँ उपस्थित नहीं है। उसे लगातार महसूस और विश्वास होता है कि उस क्षेत्र की पुलिस उस पर नजर रखती है और उसका पीछा करती है। यह किससे संबंधित है :

- (1) विभ्रान्ति
- (2) अत्यहंमन्यता भ्रमासक्ति
- (3) उत्पीड़न भ्रमासक्ति
- (4) नियंत्रण भ्रमासक्ति

Options :

212807130389. 1

212807130390. 2

212807130391. 3

212807130392. 4

Question Number : 1069 Question Id : 21280732599 Question Type : MCQ Option Shuffling : No Is Question Mandatory : No Calculator : None Response Time : N.A Think Time : N.A Minimum Instruction Time : 0

Correct Marks : 5 Wrong Marks : 1

Question Key Details :

Key	Value
Comprehension	Comp2

Read the passage and answer the question follow :

Brijesh is 25 years old autorickshaw driver. He has continuous feelings of insecurity and believes that the police in the area is tracking and following him. The patrolling of the police makes him feel that they are monitoring his behaviour minutely. The intense anxiety about this is interfering with his work and relationship and his family and friends are all worried for him. Brijesh laughs abruptly and inappropriately and sometimes stops speaking mid sentence and stares into nothingness as he appears to see or hear something that is not present.

Identify the disorder Brijesh is suffering from :

- (1) Generalised anxiety disorder
- (2) Panic disorder
- (3) Schizophrenia spectrum and other psychotic disorder
- (4) Obsessive compulsive and related disorder

Options :

212807130393. 1
212807130394. 2
212807130395. 3
212807130396. 4

Question Number : 1069 Question Id : 21280732599 Question Type : MCQ Option Shuffling : No Is Question Mandatory : No Calculator : None
Response Time : N.A Think Time : N.A Minimum Instruction Time : 0

Correct Marks : 5 Wrong Marks : 1

Question Key Details :

Key	Value
Comprehension	Comp2

निम्नलिखित अनुच्छेद को पढ़िये और दिये गए प्रश्न के उत्तर दीजिए :

ब्रिजेश 25 वर्ष का ऑटोरिक्शा चालक है। उसे लगातार महसूस और विश्वास होता है कि उस क्षेत्र की पुलिस उस पर नजर रखती है तथा उसका पीछा करती है। पुलिस की गश्त से उसे यह महसूस होता है कि उसके व्यवहार पर बारीकी से नजर रखी जा रही है। उसके इस गंभीर भय के कारण उसके पारिवारिक संबंधों तथा काम में अड़चनें आ रही हैं तथा उसका परिवार और मित्र सभी उसके प्रति चिंताग्रस्त हैं। ब्रिजेश बहुत बार अप्रत्याशित ढंग से तथा अनुपयुक्त तरीके से हंसता है, कभी-कभी बात करते करते रुक जाता है और शून्य में घूरता है जैसे कि उसे कुछ दिखाई और सुनाई दे रहा है जो कि वहाँ उपस्थित नहीं है।

ब्रिजेश जिस विकार से ग्रसित है उसे पहचानिए :

- (1) सामान्यीकृत दुश्चिंता विकार
- (2) आतंक विकार
- (3) मनोविदलता वर्णक्रम और अन्य मनोविक्षिप्त विकार
- (4) मनोग्रसित बाध्यता और संबंधित विकार

Options :

212807130393. 1
212807130394. 2
212807130395. 3
212807130396. 4

Question Number : 1070 Question Id : 21280732600 Question Type : MCQ Option Shuffling : No Is Question Mandatory : No Calculator : None
Response Time : N.A Think Time : N.A Minimum Instruction Time : 0

Correct Marks : 5 Wrong Marks : 1

Question Key Details :

Key	Value
Comprehension	Comp2

Read the passage and answer the question follow :

Brijesh is 25 years old autorickshaw driver. He has continuous feelings of insecurity and believes that the police in the area is tracking and following him. The patrolling of the police makes him feel that they are monitoring his behaviour minutely. The intense anxiety about this is interfering with his work and relationship and his family and friends are all worried for him. Brijesh laughs abruptly and inappropriately and sometimes stops speaking mid sentence and stares into nothingness as he appears to see or hear something that is not present.

Identify which one of the following is not a positive symptom of Schizophrenia ?

- (1) Delusion
- (2) Hallucination
- (3) Formal thought disorder
- (4) Avolition

Options :

212807130397. 1
212807130398. 2
212807130399. 3
212807130400. 4

Question Number : 1070 Question Id : 21280732600 Question Type : MCQ Option Shuffling : No Is Question Mandatory : No Calculator : None
Response Time : N.A Think Time : N.A Minimum Instruction Time : 0

Correct Marks : 5 Wrong Marks : 1

Question Key Details :

Key	Value
Comprehension	Comp2

निम्नलिखित अनुच्छेद को पढ़िये और दिये गए प्रश्न के उत्तर दीजिए :

ब्रिजेश 25 वर्ष का ऑटोरिक्षा चालक है। उसे लगातार महसूस और विश्वास होता है कि उस क्षेत्र की पुलिस उस पर नजर रखती है तथा उसका पीछा करती है। पुलिस की गश्त से उसे यह महसूस होता है कि उसके व्यवहार पर बारीकी से नजर रखी जा रही है। उसके इस गंभीर भय के कारण उसके पारिवारिक संबंधों तथा काम में अड़चनें आ रही हैं तथा उसका परिवार और मित्र सभी उसके प्रति चिंताग्रस्त हैं। ब्रिजेश बहुत बार अप्रत्याशित ढंग से तथा अनुपयुक्त तरीके से हंसता है, कभी-कभी बात करते करते रुक जाता है और शून्य में घूरता है जैसे कि उसे कुछ दिखाई और सुनाई दे रहा है जो कि वहाँ उपस्थित नहीं है।

मनोविदलता का इनमें से कौन-सा सकारात्मक लक्षण नहीं है, पहचानिए :

- (1) भ्रमासक्ति
- (2) विभ्रान्ति
- (3) औपचारिक चिंतन विकार
- (4) इच्छाशक्ति न्यूनता

Options :

212807130397. 1
212807130398. 2
212807130399. 3
212807130400. 4

Teaching Aptitude

Group Number :	27
Group Id :	212807751
Group Maximum Duration :	45
Group Minimum Duration :	45
Show Attended Group? :	No
Edit Attended Group? :	No

Break time : 0
Group Marks : 200
Is this Group for Examiner? : No
Examiner permission : Cant View
Show Progress Bar? : No

Teaching Aptitude

Section Id : 212807885
Section Number : 1
Section type : Online
Mandatory or Optional : Mandatory
Number of Questions : 50
Number of Questions to be attempted : 40
Section Marks : 200
Enable Mark as Answered Mark for Review and Clear Response : Yes
Maximum Instruction Time : 0
Sub-Section Number : 1
Sub-Section Id : 2128072550
Question Shuffling Allowed : Yes
Is Section Default? : null

Question Number : 1071 Question Id : 21280732651 Question Type : MCQ Option Shuffling : No Is Question Mandatory : No Calculator : None
Response Time : N.A Think Time : N.A Minimum Instruction Time : 0

Correct Marks : 5 Wrong Marks : 1

Question Key Details :

Key	Value
Comprehension	MCQ

If a teacher has to explain 'Law of Gravitation' in the classroom, which kind of knowledge is this ?

- (1) Factual
- (2) Conceptual
- (3) Procedural
- (4) Metacognitive

Options :

212807130601. 1
212807130602. 2
212807130603. 3
212807130604. 4

Question Number : 1071 Question Id : 21280732651 Question Type : MCQ Option Shuffling : No Is Question Mandatory : No Calculator : None
Response Time : N.A Think Time : N.A Minimum Instruction Time : 0

Correct Marks : 5 Wrong Marks : 1

Question Key Details :

Key	Value
Comprehension	MCQ

यदि एक शिक्षक को गुरुत्वाकर्षण के नियम की व्याख्या करनी है तो यह किस प्रकार का ज्ञान है?

- (1) तथ्यात्मक
- (2) संकल्पनात्मक
- (3) प्रक्रियात्मक
- (4) आर्धसंज्ञानात्मक

Options :

212807130601. 1
212807130602. 2
212807130603. 3
212807130604. 4

Question Number : 1072 Question Id : 21280732652 Question Type : MCQ Option Shuffling : No Is Question Mandatory : No Calculator : None
Response Time : N.A Think Time : N.A Minimum Instruction Time : 0

Correct Marks : 5 Wrong Marks : 1

Question Key Details :

Key	Value
Comprehension	MCQ

A child is wondering if there is any thing in the world which can travel faster than the speed of light. In order to help the child arrive at an explanation, the teacher will have to refer to the concept of :

- (1) Speed, energy and acceleration
- (2) Speed, mass and energy
- (3) Speed, momentum and particles
- (4) Speed, metabolism and energy

Options :

212807130605. 1
212807130606. 2
212807130607. 3
212807130608. 4

Question Number : 1072 Question Id : 21280732652 Question Type : MCQ Option Shuffling : No Is Question Mandatory : No Calculator : None
Response Time : N.A Think Time : N.A Minimum Instruction Time : 0

Correct Marks : 5 Wrong Marks : 1

Question Key Details :

Key	Value
Comprehension	MCQ

एक बालक आश्चर्यचकित हो जाता है कि दुनिया में एक ऐसी वस्तु है जो प्रकाश की गति से भी तीव्र यात्रा कर सकती है, बालक को व्याख्या करने में सहायता देने के लिए शिक्षक को _____ विचार का प्रसंग देना होगा :

- (1) गति, शक्ति तथा त्वरण
- (2) गति, द्रव्यमान तथा शक्ति
- (3) गति, गतिशीलता तथा कण
- (4) गति, चयापचय तथा शक्ति

Options :

212807130605. 1
212807130606. 2
212807130607. 3
212807130608. 4

Question Number : 1073 Question Id : 21280732653 Question Type : MCQ Option Shuffling : No Is Question Mandatory : No Calculator : None
Response Time : N.A Think Time : N.A Minimum Instruction Time : 0

Correct Marks : 5 Wrong Marks : 1

Question Key Details :

Key	Value
Comprehension	MCQ

A. Child reported that when she casually rubbed the rim of a glass with her wet finger, a humming sound emanated from it. While responding to the child's observation, the science teacher should :

- (1) Say that if the finger was too wet it wouldn't have produced the sound.
- (2) Explain the phenomena immediately to satisfy the child's curiosity.
- (3) Ask the child to experiment further with different water levels in the glass.
- (4) Gently reprimand the child for wasting the teacher's valuable teaching time.

Options :

212807130609. 1

212807130610. 2
212807130611. 3
212807130612. 4

Question Number : 1073 Question Id : 21280732653 Question Type : MCQ Option Shuffling : No Is Question Mandatory : No Calculator : None
Response Time : N.A Think Time : N.A Minimum Instruction Time : 0

Correct Marks : 5 Wrong Marks : 1

Question Key Details :

Key	Value
Comprehension	MCQ

एक बालक ने बताया कि जब उसने कांच के किनारे को गीली अंगुली से रगड़ा तो उसमें से गुनगुनाने की आवाज निकली/ बालक के प्रेक्षण की व्याख्या करते समय विज्ञान के शिक्षक को _____

- (1) कहना चाहिए कि यदि अंगुली अत्याधिक गीली होती तो यह आवाज नहीं आयी होती
- (2) बालक की जिज्ञासा को शान्त करने के लिए उस घटना की तुरन्त व्याख्या करनी चाहिये
- (3) बालक को कहे कि वह जल के विभिन्न स्तरों से कांच पर प्रयोग करे
- (4) शिक्षक के महत्वपूर्ण शिक्षण समय को नष्ट करने के लिए विनम्रता से फटकार लगाये

Options :

212807130609. 1
212807130610. 2
212807130611. 3
212807130612. 4

Question Number : 1074 Question Id : 21280732654 Question Type : MCQ Option Shuffling : No Is Question Mandatory : No Calculator : None
Response Time : N.A Think Time : N.A Minimum Instruction Time : 0

Correct Marks : 5 Wrong Marks : 1

Question Key Details :

Key	Value
Comprehension	MCQ

A child is suffering from a viral fever. He takes antibiotics on his own but his condition does not improve. The doctor tried to help him understand why the antibiotic did not affect the virus. He will have to make the child understand that -

- (1) Virus does not replicate itself when it enters and infects our body.
- (2) Virus does not eat the antibiotic even when it is inside our body.
- (3) It is impossible to inhibit any kind of virus for viral activity.
- (4) Virus does not have its own cellular machinery for an antibiotic to target.

Options :

212807130613. 1
212807130614. 2
212807130615. 3
212807130616. 4

Question Number : 1074 Question Id : 21280732654 Question Type : MCQ Option Shuffling : No Is Question Mandatory : No Calculator : None
Response Time : N.A Think Time : N.A Minimum Instruction Time : 0

Correct Marks : 5 Wrong Marks : 1

Question Key Details :

Key	Value
Comprehension	MCQ

एक बालक जीवाणु जनित ज्वर से पीड़ित है। वह अपने आप प्रतिजैविक औषधि लेता है किन्तु उसकी स्थिति में सुधार नहीं होता है। डॉक्टर ने उसे समझाने का प्रयास किया कि प्रतिजैविक औषधि ने जीवाणु को प्रभावित क्यों नहीं किया। उसे बालक को यह समझाना होगा कि -

- (1) जीवाणु स्वयं की प्रतिकृति नहीं बनाता जब वह शरीर में प्रवेश करता है तथा उसे संक्रमित करता है।
- (2) जीवाणु जब वह हमारे शरीर में होता है तब भी प्रतिजैविक औषधि का सेवन नहीं करता।
- (3) किसी भी प्रकार के जीवाणु को जीवाधु जनित क्रियाओं से अवरोधित करना असम्भव है।
- (4) जीवाणु की अपनी कोषीय मशीनरी नहीं होती जिसमें प्रतिजैविक औषधि उसे निशाना बना ले।

Options :

212807130613. 1
212807130614. 2
212807130615. 3
212807130616. 4

Question Number : 1075 Question Id : 21280732655 Question Type : MCQ Option Shuffling : No Is Question Mandatory : No Calculator : None
Response Time : N.A Think Time : N.A Minimum Instruction Time : 0

Correct Marks : 5 Wrong Marks : 1

Question Key Details :

Key	Value
Comprehension	MCQ

If a teacher asks his students to listen to others and is calling to change her/his mind if wanted, the teacher is trying to develop :

- (1) Objectivity
- (2) Open mindednes
- (3) Honesty
- (4) Scepticism

Options :

212807130617. 1
212807130618. 2
212807130619. 3
212807130620. 4

Question Number : 1075 Question Id : 21280732655 Question Type : MCQ Option Shuffling : No Is Question Mandatory : No Calculator : None
Response Time : N.A Think Time : N.A Minimum Instruction Time : 0

Correct Marks : 5 Wrong Marks : 1

Question Key Details :

Key	Value
Comprehension	MCQ

यदि एक शिक्षक अपने विद्यार्थियों को दूसरों को सुनने को कहता है तथा यदि चाहे तो अपने मन को परवर्तित कर सकता है, शिक्षक _____ विकसित करने का प्रयास कर रहा है :

- (1) वास्तुनिष्ठता
- (2) विवृतमना
- (3) ईमानदारी
- (4) संशयवाद

Options :

212807130617. 1
212807130618. 2
212807130619. 3
212807130620. 4

Question Number : 1076 Question Id : 21280732656 Question Type : MCQ Option Shuffling : No Is Question Mandatory : No Calculator : None
Response Time : N.A Think Time : N.A Minimum Instruction Time : 0

Correct Marks : 5 Wrong Marks : 1

Question Key Details :

Key	Value
Comprehension	MCQ

The ability to analyse our experiences and review our actions through reflection is known as :

- (1) Perseverance
- (2) Scepticism
- (3) Critical thinking
- (4) Objectivity

Options :

212807130621. 1
212807130622. 2
212807130623. 3
212807130624. 4

Question Number : 1076 Question Id : 21280732656 Question Type : MCQ Option Shuffling : No Is Question Mandatory : No Calculator : None
Response Time : N.A Think Time : N.A Minimum Instruction Time : 0

Correct Marks : 5 Wrong Marks : 1

Question Key Details :

Key	Value
Comprehension	MCQ

हमारे अनुभवों का विश्लेषण करने तथा अनुचिंतन के द्वारा हमारे कार्यों को पुनरावलोकन करने को _____ कहते हैं :

- (1) अध्यवसाय
- (2) संशयवाद
- (3) आलोचनात्मक सोच
- (4) वस्तुनिष्ठता

Options :

212807130621. 1
212807130622. 2
212807130623. 3
212807130624. 4

Question Number : 1077 Question Id : 21280732657 Question Type : MCQ Option Shuffling : No Is Question Mandatory : No Calculator : None
Response Time : N.A Think Time : N.A Minimum Instruction Time : 0

Correct Marks : 5 Wrong Marks : 1

Question Key Details :

Key	Value
Comprehension	MCQ

Formulae are a/an _____ made on the basis of specific examples, which can then be extended to new examples.

- (1) Generalization
- (2) Approximation
- (3) Model
- (4) Assumption

Options :

212807130625. 1
212807130626. 2
212807130627. 3
212807130628. 4

Question Number : 1077 Question Id : 21280732657 Question Type : MCQ Option Shuffling : No Is Question Mandatory : No Calculator : None
Response Time : N.A Think Time : N.A Minimum Instruction Time : 0

Correct Marks : 5 Wrong Marks : 1

Question Key Details :

Key	Value
Comprehension	MCQ

फार्मूला है _____ विशिष्ट उदाहरणों पर आधारित बनाये हुये जो नये उदाहरणों में विस्तृत किया जा सके

- (1) सामान्यीकरण
- (2) निकटीकरण
- (3) आदर्श
- (4) पूर्वधारणा

Options :

212807130625. 1
212807130626. 2
212807130627. 3
212807130628. 4

Question Number : 1078 Question Id : 21280732658 Question Type : MCQ Option Shuffling : No Is Question Mandatory : No Calculator : None
Response Time : N.A Think Time : N.A Minimum Instruction Time : 0

Correct Marks : 5 Wrong Marks : 1

Question Key Details :

Key	Value
Comprehension	MCQ

Match List - I with List - II.

Actions List - I

- (A) Punishment
- (B) Reinforcement
- (C) Continuous Reinforcement
- (D) Negative Reinforcement

Examples List - II

- (I) Teacher gives stars in notebook of learner.
- (II) Learner cannot go for games period until he/she has finished his/her work.
- (III) Slapping a child for incomplete homework
- (IV) Teacher praises the learners when they give the correct answers

Choose the correct answer from the options given below :

- (1) (A)-(I), (B)-(II), (C)-(IV), (D)-(III)
- (2) (A)-(III), (B)-(I), (C)-(IV), (D)-(II)
- (3) (A)-(II), (B)-(III), (C)-(I), (D)-(IV)
- (4) (A)-(I), (B)-(IV), (C)-(III), (D)-(II)

Options :

212807130629. 1
212807130630. 2
212807130631. 3
212807130632. 4

Question Number : 1078 Question Id : 21280732658 Question Type : MCQ Option Shuffling : No Is Question Mandatory : No Calculator : None
Response Time : N.A Think Time : N.A Minimum Instruction Time : 0

Correct Marks : 5 Wrong Marks : 1

Question Key Details :

Key	Value
Comprehension	MCQ

सूची-I से सूची-II का मिलान कीजिए:

स्तम्भ (कार्य) - सूची-I

- (A) दण्ड
(B) पुर्नबलन
(C) निरन्तर पुर्नबलन
(D) ऋणात्मक पुर्नबलन

उदाहरण स्तम्भ - सूची-II

- (I) शिक्षक बालक की पुस्तिका में स्टार देता है
(II) शिक्षार्थी तब तक खेल के लिये नहीं जा सकता, जब तक वह अपना कार्य पूर्ण नहीं कर लेता
(III) अपूर्ण गृहकार्य के लिये बालक को चाँटा मारना
(IV) जब शिक्षार्थी सही उत्तर देते हैं तो शिक्षक उसकी प्रशंसा करते हैं

नीचे दिए गए विकल्पों में से सही उत्तर का चयन कीजिए :

- (1) (A)-(I), (B)-(II), (C)-(IV), (D)-(III)
(2) (A)-(III), (B)-(I), (C)-(IV), (D)-(II)
(3) (A)-(II), (B)-(III), (C)-(I), (D)-(IV)
(4) (A)-(I), (B)-(IV), (C)-(III), (D)-(II)

Options :

212807130629. 1
212807130630. 2
212807130631. 3
212807130632. 4

Question Number : 1079 Question Id : 21280732659 Question Type : MCQ Option Shuffling : No Is Question Mandatory : No Calculator : None
Response Time : N.A Think Time : N.A Minimum Instruction Time : 0
Correct Marks : 5 Wrong Marks : 1

Question Key Details :

Key	Value
Comprehension	MCQ

Children are taught about proofs in mathematics to develop _____ reasoning.

- (1) Haphazard
(2) Institutionalised
(3) Systematic
(4) Unstructured

Options :

212807130633. 1
212807130634. 2
212807130635. 3
212807130636. 4

Question Number : 1079 Question Id : 21280732659 Question Type : MCQ Option Shuffling : No Is Question Mandatory : No Calculator : None
Response Time : N.A Think Time : N.A Minimum Instruction Time : 0
Correct Marks : 5 Wrong Marks : 1

Question Key Details :

Key	Value
Comprehension	MCQ

_____ तार्किकता के विकास के लिये विद्यार्थियों को गणित में प्रमाण के विषय में पढ़ाया जाता है :

- (1) अव्यवस्थित
- (2) संस्थायन करना
- (3) सुव्यवस्थित
- (4) संरचनारहित

Options :

212807130633. 1
212807130634. 2
212807130635. 3
212807130636. 4

Question Number : 1080 Question Id : 21280732660 Question Type : MCQ Option Shuffling : No Is Question Mandatory : No Calculator : None
Response Time : N.A Think Time : N.A Minimum Instruction Time : 0

Correct Marks : 5 Wrong Marks : 1

Question Key Details :

Key	Value
Comprehension	MCQ

Which of the following intellectual abilities can be developed by teaching art and mathematics in an integrated manner ?

- (1) Multiple manifestations
- (2) Contextualization
- (3) Illustrating an interpretation
- (4) Taking a perspective

Options :

212807130637. 1
212807130638. 2
212807130639. 3
212807130640. 4

Question Number : 1080 Question Id : 21280732660 Question Type : MCQ Option Shuffling : No Is Question Mandatory : No Calculator : None
Response Time : N.A Think Time : N.A Minimum Instruction Time : 0

Correct Marks : 5 Wrong Marks : 1

Question Key Details :

Key	Value
Comprehension	MCQ

निम्नलिखित में से कौनसी बौद्धिक योग्यताओं का विकास कला तथा गणित को एकीकृत रूप में पढ़ाने से किया जाता है ?

- (1) अनेक रूप में अभिव्यक्ति
- (2) संदर्भीकरण
- (3) अर्थनिरूपण का चित्रण करना
- (4) एक दृष्टिकोण को लेना

Options :

212807130637. 1
212807130638. 2
212807130639. 3
212807130640. 4

Question Number : 1081 Question Id : 21280732661 Question Type : MCQ Option Shuffling : No Is Question Mandatory : No Calculator : None
Response Time : N.A Think Time : N.A Minimum Instruction Time : 0

Correct Marks : 5 Wrong Marks : 1

Question Key Details :

Key	Value
-----	-------

Hemant commits mistakes while answering the problems in writing. However, he is able to give correct answers orally. What is the best remedial strategy to decrease or remove errors in his writing ?

- (1) Giving him a worksheet with partially solved problems to fill the missing gaps.
- (2) Providing him an assignment of 10-15 questions everyday.
- (3) Giving him extra class after school, continuously for one month.
- (4) Asking him to solve the question on black board.

Options :

212807130641. 1
212807130642. 2
212807130643. 3
212807130644. 4

Question Number : 1081 Question Id : 21280732661 Question Type : MCQ Option Shuffling : No Is Question Mandatory : No Calculator : None
Response Time : N.A Think Time : N.A Minimum Instruction Time : 0

Correct Marks : 5 Wrong Marks : 1

Question Key Details :

Key	Value
Comprehension	MCQ

लिखित में प्रश्नों का उत्तर देते समय हेमन्त गलतीयाँ करता है। हालांकि वह मौखिक उत्तर सही दे पाता है! उसके लेखन से गलतियों को हटाने या दूर करने के लिए कौनसी नैदानिक विधि सर्वोत्तम है ?

- (1) उसे लुसांश भरने के लिए आंशिक रूप से भरी हुयी वर्कशीट देना
- (2) उसे प्रतिदिन 10-15 प्रश्न वाला कार्य प्रदान करना
- (3) निरन्तर एक माह तक उसे विद्यालय के उपरान्त एक्स्ट्रा क्लास देना
- (4) उससे श्यामपट्ट पर प्रश्न को हल करने के लिए कहना

Options :

212807130641. 1
212807130642. 2
212807130643. 3
212807130644. 4

Question Number : 1082 Question Id : 21280732662 Question Type : MCQ Option Shuffling : No Is Question Mandatory : No Calculator : None
Response Time : N.A Think Time : N.A Minimum Instruction Time : 0

Correct Marks : 5 Wrong Marks : 1

Question Key Details :

Key	Value
Comprehension	MCQ

Anuj guesses a multiple choice quiz randomly. There are 20 questions and each question has five possible answers. If X is the number of questions, Anuj answers correctly, the mean of X is

- (1) 3
- (2) 4
- (3) 5
- (4) 6

Options :

212807130645. 1
212807130646. 2
212807130647. 3
212807130648. 4

Question Number : 1082 Question Id : 21280732662 Question Type : MCQ Option Shuffling : No Is Question Mandatory : No Calculator : None
Response Time : N.A Think Time : N.A Minimum Instruction Time : 0

Correct Marks : 5 Wrong Marks : 1

Question Key Details :

Key	Value
Comprehension	MCQ

अनुज अनियमित बहुविकल्पीय प्रश्नोत्तरी का अनुमान लगाता है। कुल 20 प्रश्न हैं तथा प्रत्येक प्रश्न के 5 संभावित उत्तर हैं। यदि X प्रश्नों की संख्या :

- (1) 3
- (2) 4
- (3) 5
- (4) 6

Options :

212807130645. 1
212807130646. 2
212807130647. 3
212807130648. 4

Question Number : 1083 Question Id : 21280732663 Question Type : MCQ Option Shuffling : No Is Question Mandatory : No Calculator : None Response Time : N.A Think Time : N.A Minimum Instruction Time : 0

Correct Marks : 5 Wrong Marks : 1

Question Key Details :

Key	Value
Comprehension	MCQ

What do children gain from participating in creative dramatics ?

- (1) They get the training to be an adult.
- (2) They foster a sense of discipline.
- (3) They learn to be individualistic.
- (4) They learn to be serendipitous.

Options :

212807130649. 1
212807130650. 2
212807130651. 3
212807130652. 4

Question Number : 1083 Question Id : 21280732663 Question Type : MCQ Option Shuffling : No Is Question Mandatory : No Calculator : None Response Time : N.A Think Time : N.A Minimum Instruction Time : 0

Correct Marks : 5 Wrong Marks : 1

Question Key Details :

Key	Value
Comprehension	MCQ

रचनात्मक नाट्यशास्त्र में भाग लेने से बालक क्या प्राप्त करते हैं ?

- (1) उन्हें वयस्क होने का प्रमाण पत्र प्राप्त होता है
- (2) वे अनुशासन के भाव का परिपालन करते हैं
- (3) वे वैयक्तिक होना सीखते हैं
- (4) वे आकस्मिक लाभवृत्ति करना सीखते हैं

Options :

212807130649. 1
212807130650. 2
212807130651. 3
212807130652. 4

Question Number : 1084 Question Id : 21280732664 Question Type : MCQ Option Shuffling : No Is Question Mandatory : No Calculator : None Response Time : N.A Think Time : N.A Minimum Instruction Time : 0

Correct Marks : 5 Wrong Marks : 1

Question Key Details :

Key	Value
Comprehension	MCQ

Given below are two statements :

Statement (I) : Craft and gender do not have any significant linkages.

Statement (II) : Mostly, women's work that they do in the different processes of the family craft is paid.

In the light of the above statements, choose the **correct answer** from the options given below :

- (1) Both **Statement I** and **Statement II** are true
- (2) Both **Statement I** and **Statement II** are false
- (3) **Statement I** is true but **Statement II** is false
- (4) **Statement I** is false but **Statement II** is true

Options :

212807130653. 1
212807130654. 2
212807130655. 3
212807130656. 4

Question Number : 1084 Question Id : 21280732664 Question Type : MCQ Option Shuffling : No Is Question Mandatory : No Calculator : None Response Time : N.A Think Time : N.A Minimum Instruction Time : 0

Correct Marks : 5 Wrong Marks : 1

Question Key Details :

Key	Value
Comprehension	MCQ

नीचे दो कथन दिये गये हैं :

कथन (I) : हस्ताकला तथा लिंग में कोई महत्वपूर्ण सम्बन्ध नहीं है

कथन (II) : अधिकांशतः महिलायें परिवार हस्तकौशल के लिये जो विभिन्न क्रियायें करती हैं, उन्हें उसका पैसा मिलता है

उपरोक्त कथन के आलोक में, नीचे दिए गए विकल्पों में से **सही** उत्तर चयन कीजिए :

- (1) **कथन I** और **कथन II** दोनों सत्य है
- (2) **कथन I** और **कथन II** दोनों असत्य है
- (3) **कथन I** सत्य है, लेकिन **कथन II** असत्य है
- (4) **कथन I** असत्य है, लेकिन **कथन II** सत्य है

Options :

212807130653. 1
212807130654. 2
212807130655. 3
212807130656. 4

Question Number : 1085 Question Id : 21280732665 Question Type : MCQ Option Shuffling : No Is Question Mandatory : No Calculator : None Response Time : N.A Think Time : N.A Minimum Instruction Time : 0

Correct Marks : 5 Wrong Marks : 1

Question Key Details :

Key	Value
Comprehension	MCQ

The Indian Music Experience Museum is India's first _____ music museum in Bengaluru. It introduces the youth to the diversity of Indian music.

- (1) restorative
- (2) instrumental
- (3) interactive
- (4) scientific

Options :

212807130657. 1
212807130658. 2
212807130659. 3
212807130660. 4

Question Number : 1085 Question Id : 21280732665 Question Type : MCQ Option Shuffling : No Is Question Mandatory : No Calculator : None
Response Time : N.A Think Time : N.A Minimum Instruction Time : 0

Correct Marks : 5 Wrong Marks : 1

Question Key Details :

Key	Value
Comprehension	MCQ

भारतीय संगीत अनुभव संग्रहालय बंगलुरु में भारत का प्रथम _____ संगीत संग्रहालय है। यह युवाओं को भारतीय संगीत की विविधता से परिचित कराता है।

- (1) जीर्णोद्धार
- (2) नैमैतिक
- (3) अन्तःक्रियात्मक
- (4) वैज्ञानिक

Options :

212807130657. 1
212807130658. 2
212807130659. 3
212807130660. 4

Question Number : 1086 Question Id : 21280732666 Question Type : MCQ Option Shuffling : No Is Question Mandatory : No Calculator : None
Response Time : N.A Think Time : N.A Minimum Instruction Time : 0

Correct Marks : 5 Wrong Marks : 1

Question Key Details :

Key	Value
Comprehension	MCQ

An art form that is practised by a community and is sometimes done in groups, with the whole community taking part :

- (1) Classical Art
- (2) Folk Art
- (3) Visual Art
- (4) Performing Art

Options :

212807130661. 1
212807130662. 2
212807130663. 3
212807130664. 4

Question Number : 1086 Question Id : 21280732666 Question Type : MCQ Option Shuffling : No Is Question Mandatory : No Calculator : None
Response Time : N.A Think Time : N.A Minimum Instruction Time : 0

Correct Marks : 5 Wrong Marks : 1

Question Key Details :

Key	Value
Comprehension	MCQ

कला का एक स्वरूप जो एक समुदाय द्वारा प्रयोग में लाया जाता है तथा कभी-कभी समूह में किया जाता है जिसमें समस्त समुदाय भाग लेता है _____

- (1) शास्त्रीय कला
- (2) लोक-कला
- (3) दृश्य कला
- (4) प्रदर्शन कला

Options :

212807130661. 1
212807130662. 2
212807130663. 3
212807130664. 4

Question Number : 1087 Question Id : 21280732667 Question Type : MCQ Option Shuffling : No Is Question Mandatory : No Calculator : None
Response Time : N.A Think Time : N.A Minimum Instruction Time : 0

Correct Marks : 5 Wrong Marks : 1

Question Key Details :

Key	Value
Comprehension	MCQ

Match List - I with List - II.

List - I Art works

List - II Artists

- | | |
|---------------------------------------|-----------------------------|
| (A) Babur crossing the river Sone | (I) Haji Madni |
| (B) Marriage procession of Dara Sikoh | (II) Basawan |
| (C) Kabir and Raidas | (III) Jagannath |
| (D) A folio from Akbar Namah | (IV) Ustad Faquirullah Khan |

Choose the correct answer from the options given below :

- (1) (A)-(III), (B)-(I), (C)-(IV), (D)-(II)
- (2) (A)-(III), (B)-(II), (C)-(I), (D)-(IV)
- (3) (A)-(I), (B)-(II), (C)-(III), (D)-(IV)
- (4) (A)-(II), (B)-(III), (C)-(I), (D)-(IV)

Options :

212807130665. 1
212807130666. 2
212807130667. 3
212807130668. 4

Question Number : 1087 Question Id : 21280732667 Question Type : MCQ Option Shuffling : No Is Question Mandatory : No Calculator : None
Response Time : N.A Think Time : N.A Minimum Instruction Time : 0

Correct Marks : 5 Wrong Marks : 1

Question Key Details :

Key	Value
Comprehension	MCQ

सूची-I से सूची-II का मिलान कीजिए:

सूची-I	सूची-II
कला कार्य	कलाकार
(A) बाबर का सोन नदी को पार करना	(I) हाजी मदनी
(B) दारा शिकोह के विवाह की शोभा यात्रा	(II) बासवान
(C) कबीर तथा रैदास	(III) जगन्नाथ
(D) अकबरनामा का एक पृष्ठ	(IV) उस्ताद फकीरुल्लाह खान

नीचे दिए गए विकल्पों में से सही उत्तर का चयन कीजिए :

- (1) (A)-(III), (B)-(I), (C)-(IV), (D)-(II)
- (2) (A)-(III), (B)-(II), (C)-(I), (D)-(IV)
- (3) (A)-(I), (B)-(II), (C)-(III), (D)-(IV)
- (4) (A)-(II), (B)-(III), (C)-(I), (D)-(IV)

Options :

212807130665. 1
212807130666. 2
212807130667. 3
212807130668. 4

Question Number : 1088 Question Id : 21280732668 Question Type : MCQ Option Shuffling : No Is Question Mandatory : No Calculator : None
Response Time : N.A Think Time : N.A Minimum Instruction Time : 0

Correct Marks : 5 Wrong Marks : 1

Question Key Details :

Key	Value
Comprehension	MCQ

Given below are two statements :

Statement (I) : If we take the approach of education through the arts, learning will have to take place using different art forms and tools in the teaching - learning process.

Statement (II) : Art education can be integrated with social sciences, science, languages and mathematics in the form of content.

In the light of the above statements, choose the most appropriate answer from the options given below :

- (1) Both **Statement I** and **Statement II** are correct
- (2) Both **Statement I** and **Statement II** are incorrect
- (3) **Statement I** is correct but **Statement II** is incorrect
- (4) **Statement I** is incorrect but **Statement II** is correct

Options :

212807130669. 1
212807130670. 2
212807130671. 3
212807130672. 4

Question Number : 1088 Question Id : 21280732668 Question Type : MCQ Option Shuffling : No Is Question Mandatory : No Calculator : None
Response Time : N.A Think Time : N.A Minimum Instruction Time : 0

Correct Marks : 5 Wrong Marks : 1

Question Key Details :

Key	Value
Comprehension	MCQ

नीचे दो कथन दिये गये हैं :

कथन (I) : यदि हम कला के माध्यम से शिक्षा का दृष्टिकोण अपनाते हैं, तो शिक्षण अधिगम प्रक्रिया में विभिन्न कला स्वरूपों तथा यन्त्रों के प्रयोग द्वारा अधिगम होके ही रहेगा।

कथन (II) : कला शिक्षा विषयवस्तु के रूप में सामाजिक विज्ञान, विज्ञान, भाषा, तथा गणित में समाहित की जा सकती है।

उपरोक्त कथन के आलोक में, नीचे दिए गए विकल्पों में से सही उत्तर चयन कीजिए :

- (1) कथन I और कथन II दोनों सही है
- (2) कथन I और कथन II दोनों गलत है
- (3) कथन I सही है, लेकिन कथन II गलत है
- (4) कथन I गलत है, लेकिन कथन II सही है

Options :

212807130669. 1
212807130670. 2
212807130671. 3
212807130672. 4

Question Number : 1089 Question Id : 21280732669 Question Type : MCQ Option Shuffling : No Is Question Mandatory : No Calculator : None
Response Time : N.A Think Time : N.A Minimum Instruction Time : 0

Correct Marks : 5 Wrong Marks : 1

Question Key Details :

Key	Value
Comprehension	MCQ

A good social science teacher should make efforts to develop concepts and the ability to analyse socio-political realities _____ retention of information without comprehension :

- (1) rather than the
- (2) along with the
- (3) while parallely encouraging the
- (4) and encourage unilateral

Options :

212807130673. 1
212807130674. 2
212807130675. 3
212807130676. 4

Question Number : 1089 Question Id : 21280732669 Question Type : MCQ Option Shuffling : No Is Question Mandatory : No Calculator : None
Response Time : N.A Think Time : N.A Minimum Instruction Time : 0

Correct Marks : 5 Wrong Marks : 1

Question Key Details :

Key	Value
Comprehension	MCQ

सामाजिक विज्ञान के एक अच्छे शिक्षक में संकल्पना के विकास तथा सामाजिक राजनैतिक वास्तविकताओं का विश्लेषण करने की क्षमता होनी चाहिए _____ बिना समझे सूचना का प्रतिधारण :

- (1) बजाय
- (2) के साथ
- (3) साथ में उत्साहवर्धन करते हुए
- (4) तथा एकपक्षीय उत्साहित करना

Options :

212807130673. 1

212807130674. 2
212807130675. 3
212807130676. 4

Question Number : 1090 Question Id : 21280732670 Question Type : MCQ Option Shuffling : No Is Question Mandatory : No Calculator : None
Response Time : N.A Think Time : N.A Minimum Instruction Time : 0

Correct Marks : 5 Wrong Marks : 1

Question Key Details :

Key	Value
Comprehension	MCQ

_____ has been replaced by a new subject in the social science syllabus called 'Social and Political life at the upper primary level.

- (1) Sociology
- (2) Economics
- (3) Political Science
- (4) Civics

Options :

212807130677. 1
212807130678. 2
212807130679. 3
212807130680. 4

Question Number : 1090 Question Id : 21280732670 Question Type : MCQ Option Shuffling : No Is Question Mandatory : No Calculator : None
Response Time : N.A Think Time : N.A Minimum Instruction Time : 0

Correct Marks : 5 Wrong Marks : 1

Question Key Details :

Key	Value
Comprehension	MCQ

_____ के स्थान पर सामाजिक विज्ञान पाठ्यक्रम विवरण में उच्च प्राथमिक स्तर पर 'सामाजिक तथा राजनैतिक जीवन' नामक विषय लागू किया गया है।

- (1) समाजशास्त्र
- (2) अर्थशास्त्र
- (3) राजनैतिक विज्ञान
- (4) नागरिक शास्त्र

Options :

212807130677. 1
212807130678. 2
212807130679. 3
212807130680. 4

Question Number : 1091 Question Id : 21280732671 Question Type : MCQ Option Shuffling : No Is Question Mandatory : No Calculator : None
Response Time : N.A Think Time : N.A Minimum Instruction Time : 0

Correct Marks : 5 Wrong Marks : 1

Question Key Details :

Key	Value
Comprehension	MCQ

In which city of India is "Jalianwalla bagh" situated ?

- (1) Mumbai
- (2) Surat
- (3) Pune
- (4) Amritsar

Options :

212807130681. 1

212807130682. 2
212807130683. 3
212807130684. 4

Question Number : 1091 Question Id : 21280732671 Question Type : MCQ Option Shuffling : No Is Question Mandatory : No Calculator : None
Response Time : N.A Think Time : N.A Minimum Instruction Time : 0

Correct Marks : 5 Wrong Marks : 1

Question Key Details :

Key	Value
Comprehension	MCQ

भारत के किस शहर में जलियांवाला बाग स्थित है ?

- (1) मुम्बई
- (2) सूरत
- (3) पूने
- (4) अमृतसर

Options :

212807130681. 1
212807130682. 2
212807130683. 3
212807130684. 4

Question Number : 1092 Question Id : 21280732672 Question Type : MCQ Option Shuffling : No Is Question Mandatory : No Calculator : None
Response Time : N.A Think Time : N.A Minimum Instruction Time : 0

Correct Marks : 5 Wrong Marks : 1

Question Key Details :

Key	Value
Comprehension	MCQ

What does "Apartheid" mean ?

- (1) Allowed
- (2) Separation
- (3) Welcome
- (4) Not Allowed

Options :

212807130685. 1
212807130686. 2
212807130687. 3
212807130688. 4

Question Number : 1092 Question Id : 21280732672 Question Type : MCQ Option Shuffling : No Is Question Mandatory : No Calculator : None
Response Time : N.A Think Time : N.A Minimum Instruction Time : 0

Correct Marks : 5 Wrong Marks : 1

Question Key Details :

Key	Value
Comprehension	MCQ

प्रजाति प्राथक्य का क्या अर्थ है ?

- (1) अनुमति
- (2) विभाजन
- (3) स्वागत
- (4) अनुमति नहीं

Options :

212807130685. 1
212807130686. 2

212807130687. 3
212807130688. 4

Question Number : 1093 Question Id : 21280732673 Question Type : MCQ Option Shuffling : No Is Question Mandatory : No Calculator : None
Response Time : N.A Think Time : N.A Minimum Instruction Time : 0
Correct Marks : 5 Wrong Marks : 1

Question Key Details :

Key	Value
Comprehension	MCQ

Given below are two statements : one is labelled as **Assertion (A)** and the other is labelled as **Reason (R)**.

Assertion (A) : According to the Jaina teachings, the entire world is animated.

Reason (R) : Non-injury to living beings, excluding insects, is emphasised upon.

In the light of the above statements, choose the **correct answer** from the options given below :

- (1) Both (A) and (R) are true and (R) is the correct explanation of (A)
- (2) Both (A) and (R) are true but (R) is not the correct explanation of (A)
- (3) (A) is true but (R) is false
- (4) (A) is false but (R) is true

Options :

212807130689. 1
212807130690. 2
212807130691. 3
212807130692. 4

Question Number : 1093 Question Id : 21280732673 Question Type : MCQ Option Shuffling : No Is Question Mandatory : No Calculator : None
Response Time : N.A Think Time : N.A Minimum Instruction Time : 0
Correct Marks : 5 Wrong Marks : 1

Question Key Details :

Key	Value
Comprehension	MCQ

नीचे दो कथन दिए गए हैं: एक **अभिकथन (A)** के रूप में लिखित है तो दूसरा उसके **कारण (R)** के रूप में है।

अभिकथन (A) : जैन शिक्षा के अनुसार सम्पूर्ण विश्व चेतन है।

कारण (R) : कीट पतंगों को छोड़कर सभी जीवों को चोट न पहुंचाने पर बल दिया गया है।

उपरोक्त कथन के आलोक में, नीचे दिए गए विकल्पों में से **सही** उत्तर चयन कीजिए:

- (1) दोनों (A) और (R) सत्य हैं और (R), (A) की सही व्याख्या है
- (2) दोनों (A) और (R) सत्य हैं लेकिन (R), (A) की सही व्याख्या नहीं है
- (3) (A) सत्य है, लेकिन (R) असत्य है
- (4) (A) असत्य है, लेकिन (R) सत्य है

Options :

212807130689. 1
212807130690. 2
212807130691. 3
212807130692. 4

Question Number : 1094 Question Id : 21280732674 Question Type : MCQ Option Shuffling : No Is Question Mandatory : No Calculator : None
Response Time : N.A Think Time : N.A Minimum Instruction Time : 0
Correct Marks : 5 Wrong Marks : 1

Question Key Details :

Key	Value
-----	-------

Given below are two statements :

Statement (I) : Teaching-learning of social science must revolve around transmitting information from the teacher to the student.

Statement (II) : Social sciences do not involve creativity, scientificity or analytical thought process.

In the light of the above statements, choose the **correct answer** from the options given below :

- (1) Both **Statement I** and **Statement II** are true
- (2) Both **Statement I** and **Statement II** are False
- (3) **Statement I** is true but **Statement II** is False
- (4) **Statement I** is false but **Statement II** is true

Options :

212807130693. 1
212807130694. 2
212807130695. 3
212807130696. 4

Question Number : 1094 Question Id : 21280732674 Question Type : MCQ Option Shuffling : No Is Question Mandatory : No Calculator : None Response Time : N.A Think Time : N.A Minimum Instruction Time : 0

Correct Marks : 5 Wrong Marks : 1

Question Key Details :

Key	Value
Comprehension	MCQ

नीचे दो कथन दिए गए हैं :

कथन (I) : सामाजिक विज्ञान का शिक्षण अधिगम शिक्षक द्वारा विद्यार्थी तक सूचना को प्रेषित करने के आस-पास होना चाहिये।

कथन (II) : सामाजिक विज्ञान, रचनात्मकता, वैज्ञानिकता तथा विश्लेषणात्मक विचार प्रक्रिया को लागू नहीं करता।

उपरोक्त कथन के आलोक में, नीचे दिए गए विकल्पों में से **सही** उत्तर चयन कीजिए :

- (1) **कथन I** और **कथन II** दोनों सत्य है
- (2) **कथन I** और **कथन II** दोनों असत्य है
- (3) **कथन I** सत्य है, लेकिन **कथन II** असत्य है
- (4) **कथन I** असत्य है, लेकिन **कथन II** सत्य है

Options :

212807130693. 1
212807130694. 2
212807130695. 3
212807130696. 4

Question Number : 1095 Question Id : 21280732675 Question Type : MCQ Option Shuffling : No Is Question Mandatory : No Calculator : None Response Time : N.A Think Time : N.A Minimum Instruction Time : 0

Correct Marks : 5 Wrong Marks : 1

Question Key Details :

Key	Value
Comprehension	MCQ

Under three language formula, every child learns three languages in his/her school time. One of the objectives of this formula is to :

- (1) Discourage the use of home language as it creates obstacles in children's learning.
- (2) Develop a multilingual classroom as a resource for a better learning approach.
- (3) Increase one school subject so that children learn a lot.
- (4) Increase an additional subject so that more people may become teachers.

Options :

212807130697. 1
212807130698. 2
212807130699. 3
212807130700. 4

Question Number : 1095 Question Id : 21280732675 Question Type : MCQ Option Shuffling : No Is Question Mandatory : No Calculator : None
Response Time : N.A Think Time : N.A Minimum Instruction Time : 0

Correct Marks : 5 Wrong Marks : 1

Question Key Details :

Key	Value
Comprehension	MCQ

त्रिभाषा सूत्र के अन्तर्गत प्रत्येक बालक अपने विद्यालयीय काल में तीन भाषायें सीखता है। इस सूत्र का एक उद्देश्य है :

- (1) घरेलू भाषा के प्रयोग को हतोत्साहित करना क्योंकि यह बालक के अधिगम में अवरोध उत्पन्न करता है।
- (2) बेहतर अधिगम दृष्टिकोण के लिये बहुभाषीय कक्षा को एक संसाधन के रूप में विकसित करे।
- (3) एक विद्यालयीय विषय को बढ़ायें ताकि बालक बहुत सा सीख ले।
- (4) एक अतिरिक्त विषय को बढ़ाना ताकि अधिक लोग शिक्षक बन सकें।

Options :

212807130697. 1
212807130698. 2
212807130699. 3
212807130700. 4

Question Number : 1096 Question Id : 21280732676 Question Type : MCQ Option Shuffling : No Is Question Mandatory : No Calculator : None
Response Time : N.A Think Time : N.A Minimum Instruction Time : 0

Correct Marks : 5 Wrong Marks : 1

Question Key Details :

Key	Value
Comprehension	MCQ

Given below are two statements :

Statement (I) : Children learn in a spiral and not a linear way.

Statement (II) : The act of learning involves a process of establishing connections among facts experienced or realised by children.

In the light of the above statements, choose the correct answer from the options given below :

- (1) Both Statement I and Statement II are true
- (2) Both Statement I and Statement II are False
- (3) Statement I is true but Statement II is False
- (4) Statement I is false but Statement II is true

Options :

212807130701. 1
212807130702. 2
212807130703. 3
212807130704. 4

Question Number : 1096 Question Id : 21280732676 Question Type : MCQ Option Shuffling : No Is Question Mandatory : No Calculator : None
Response Time : N.A Think Time : N.A Minimum Instruction Time : 0

Correct Marks : 5 Wrong Marks : 1

Question Key Details :

Key	Value
Comprehension	MCQ

नीचे दो कथन दिए गए हैं:

कथन (I) : बच्चे रैखिक रूप में सीखते हैं न कि सर्पिल।

कथन (II) : अधिगम कार्य बालकों द्वारा प्राप्त अथवा अनुभव किये हुये तथ्यों में सम्बंध स्थापित करने की प्रक्रिया है।

उपरोक्त कथन के आलोक में, नीचे दिए गए विकल्पों में से सही उत्तर चयन कीजिए :

- (1) कथन I और कथन II दोनों सत्य है
- (2) कथन I और कथन II दोनों असत्य है
- (3) कथन I सत्य है, लेकिन कथन II असत्य है
- (4) कथन I असत्य है, लेकिन कथन II सत्य है

Options :

212807130701. 1
212807130702. 2
212807130703. 3
212807130704. 4

Question Number : 1097 Question Id : 21280732677 Question Type : MCQ Option Shuffling : No Is Question Mandatory : No Calculator : None
Response Time : N.A Think Time : N.A Minimum Instruction Time : 0

Correct Marks : 5 Wrong Marks : 1

Question Key Details :

Key	Value
Comprehension	MCQ

Which of the following help to picturise a child-centred classroom ?

- (1) Children's performance is reported in terms of marks for subject areas.
- (2) Children memorise facts given in the textbook or as told by the teacher.
- (3) Teacher provides learning opportunities and guides meaningful learning.
- (4) Children listen while the teacher teaches the content and imparts knowledge.

Options :

212807130705. 1
212807130706. 2
212807130707. 3
212807130708. 4

Question Number : 1097 Question Id : 21280732677 Question Type : MCQ Option Shuffling : No Is Question Mandatory : No Calculator : None
Response Time : N.A Think Time : N.A Minimum Instruction Time : 0

Correct Marks : 5 Wrong Marks : 1

Question Key Details :

Key	Value
Comprehension	MCQ

निम्नलिखित में से कौनसा बाल केन्द्रित कक्षा को दर्शाने में सहायक है ?

- (1) बालकों की कार्यक्षमता को विषयक्षेत्र में अंकों के आधार पर प्रदर्शित किया जाता है।
- (2) बच्चे उन तथ्यों को कंठस्थ करते हैं जो या तो पाठ्य पुस्तक में दिये गये हैं अथवा शिक्षक द्वारा बताये गये हैं।
- (3) शिक्षक अधिगम के अवसर प्रदान करता है तथा अर्थपूर्ण अधिगम के लिये मार्गदर्शन करता है।
- (4) जब शिक्षक पाठ्यवस्तु को पढ़ाता है तथा ज्ञान प्रदान करता है तो, विद्यार्थी सुनता है।

Options :

212807130705. 1
212807130706. 2
212807130707. 3
212807130708. 4

Question Number : 1098 Question Id : 21280732678 Question Type : MCQ Option Shuffling : No Is Question Mandatory : No Calculator : None Response Time : N.A Think Time : N.A Minimum Instruction Time : 0

Correct Marks : 5 Wrong Marks : 1

Question Key Details :

Key	Value
Comprehension	MCQ

Most children acquire and internalize an externally complex and rule - governed system namely language _____

- (1) Immediately after they enter school
- (2) After spending few years in school
- (3) After completing the school
- (4) Before coming to school

Options :

212807130709. 1
212807130710. 2
212807130711. 3
212807130712. 4

Question Number : 1098 Question Id : 21280732678 Question Type : MCQ Option Shuffling : No Is Question Mandatory : No Calculator : None Response Time : N.A Think Time : N.A Minimum Instruction Time : 0

Correct Marks : 5 Wrong Marks : 1

Question Key Details :

Key	Value
Comprehension	MCQ

अधिकांश बालक प्राप्त करते हैं तथा बाह्य रूप से जटिल तथा _____ नियम प्रधान प्रणाली को आत्मीकरण करते हैं।

- (1) विद्यालय में प्रवेश के तुरन्त पश्चात्
- (2) विद्यालय में कुछ वर्ष व्यतीत करने के उपरान्त
- (3) विद्यालय समाप्त करने के उपरान्त
- (4) विद्यालय आने से पूर्व

Options :

212807130709. 1
212807130710. 2
212807130711. 3
212807130712. 4

Question Number : 1099 Question Id : 21280732679 Question Type : MCQ Option Shuffling : No Is Question Mandatory : No Calculator : None Response Time : N.A Think Time : N.A Minimum Instruction Time : 0

Correct Marks : 5 Wrong Marks : 1

Question Key Details :

Key	Value
Comprehension	MCQ

Given below are two statements :

Statement (I) : Language education is confined to the language classroom.

Statement (II) : Children cannot learn anything related to languages in a science, social science or mathematics class.

In the light of the above statements, choose the **correct answer** from the options given below :

- (1) Both **Statement I** and **Statement II** are true
- (2) Both **Statement I** and **Statement II** are False
- (3) **Statement I** is true but **Statement II** is False
- (4) **Statement I** is false but **Statement II** is true

Options :

212807130713. 1
212807130714. 2
212807130715. 3
212807130716. 4

Question Number : 1099 Question Id : 21280732679 Question Type : MCQ Option Shuffling : No Is Question Mandatory : No Calculator : None Response Time : N.A Think Time : N.A Minimum Instruction Time : 0

Correct Marks : 5 Wrong Marks : 1

Question Key Details :

Key	Value
Comprehension	MCQ

नीचे दो कथन दिए गए हैं :

कथन (I) : भाषा शिक्षा भाषा की कक्षा तक सीमित है

कथन (II) : विज्ञान, सामाजिक विज्ञान तथा गणित की कक्षा में बच्चे भाषा से सम्बन्धित कुछ नहीं सीख सकते हैं

उपरोक्त कथन के आलोक में, नीचे दिए गए विकल्पों में से **सही उत्तर** चयन कीजिए :

- (1) **कथन I** और **कथन II** दोनों सत्य है
- (2) **कथन I** और **कथन II** दोनों असत्य है
- (3) **कथन I** सत्य है, लेकिन **कथन II** असत्य है
- (4) **कथन I** असत्य है, लेकिन **कथन II** सत्य है

Options :

212807130713. 1
212807130714. 2
212807130715. 3
212807130716. 4

Question Number : 1100 Question Id : 21280732680 Question Type : MCQ Option Shuffling : No Is Question Mandatory : No Calculator : None Response Time : N.A Think Time : N.A Minimum Instruction Time : 0

Correct Marks : 5 Wrong Marks : 1

Question Key Details :

Key	Value
Comprehension	MCQ

Given below are two statements :

Statement (I) : In languages, learning takes place in a holistic manner.

Statement (II) : A subject - centric approach is better for small children while teaching languages.

In the light of the above statements, choose the **correct answer** from the options given below :

- (1) Both **Statement I** and **Statement II** are true
- (2) Both **Statement I** and **Statement II** are False
- (3) **Statement I** is true but **Statement II** is False
- (4) **Statement I** is false but **Statement II** is true

Options :

212807130717. 1
212807130718. 2
212807130719. 3
212807130720. 4

Question Number : 1100 Question Id : 21280732680 Question Type : MCQ Option Shuffling : No Is Question Mandatory : No Calculator : None Response Time : N.A Think Time : N.A Minimum Instruction Time : 0

Correct Marks : 5 Wrong Marks : 1

Question Key Details :

Key	Value
Comprehension	MCQ

नीचे दो कथन दिए गए हैं :

कथन (I) : भाषाओं में अधिगम पूर्ण रूप से घटित होता है

कथन (II) : छोटे बालकों के लिए भाषायी शिक्षा देते समय विषय प्रधान दृष्टिकोण श्रेयस्कर होता है

उपरोक्त कथन के आलोक में, नीचे दिए गए विकल्पों में से **सही उत्तर** चयन कीजिए :

- (1) **कथन I** और **कथन II** दोनों सत्य हैं
- (2) **कथन I** और **कथन II** दोनों असत्य हैं
- (3) **कथन I** सत्य है, लेकिन **कथन II** असत्य है
- (4) **कथन I** असत्य है, लेकिन **कथन II** सत्य है

Options :

212807130717. 1
212807130718. 2
212807130719. 3
212807130720. 4

Question Number : 1101 Question Id : 21280732681 Question Type : MCQ Option Shuffling : No Is Question Mandatory : No Calculator : None Response Time : N.A Think Time : N.A Minimum Instruction Time : 0

Correct Marks : 5 Wrong Marks : 1

Question Key Details :

Key	Value
Comprehension	MCQ

A large number of children in India have to walk to school every day. It is a long walk. Which of the following films has shown this ?

- (1) Dhanak
- (2) Udaan
- (3) Dor
- (4) Iqbal

Options :

212807130721. 1
212807130722. 2
212807130723. 3
212807130724. 4

Question Number : 1101 Question Id : 21280732681 Question Type : MCQ Option Shuffling : No Is Question Mandatory : No Calculator : None
Response Time : N.A Think Time : N.A Minimum Instruction Time : 0

Correct Marks : 5 Wrong Marks : 1

Question Key Details :

Key	Value
Comprehension	MCQ

भारत में बहुत सारे बच्चों को विद्यालय में प्रतिदिन पैदल जाना पड़ता है। यह एक लम्बा पदरोह है। निम्नलिखित में से कौनसी फिल्म में यह दर्शाया है?

- (1) धनक
- (2) उड़ान
- (3) डोर
- (4) इकबाल

Options :

212807130721. 1
212807130722. 2
212807130723. 3
212807130724. 4

Question Number : 1102 Question Id : 21280732682 Question Type : MCQ Option Shuffling : No Is Question Mandatory : No Calculator : None
Response Time : N.A Think Time : N.A Minimum Instruction Time : 0

Correct Marks : 5 Wrong Marks : 1

Question Key Details :

Key	Value
Comprehension	MCQ

Satyajit Ray's film 'Shatranj Ke Khiladi' is based on the story written by -

- (1) Premchand
- (2) Sharatchand
- (3) Ravindranath Tagore
- (4) Alok Rai

Options :

212807130725. 1
212807130726. 2
212807130727. 3
212807130728. 4

Question Number : 1102 Question Id : 21280732682 Question Type : MCQ Option Shuffling : No Is Question Mandatory : No Calculator : None
Response Time : N.A Think Time : N.A Minimum Instruction Time : 0

Correct Marks : 5 Wrong Marks : 1

Question Key Details :

Key	Value
Comprehension	MCQ

सत्यजीत रे की फिल्म 'शतरंज के खिलाड़ी' _____ द्वारा लिखित कहानी पर आधारित है

- (1) प्रेमचन्द
- (2) शरत्चन्द
- (3) रवीन्द्र नाथ टैगोर
- (4) आलोक राय

Options :

- 212807130725. 1
- 212807130726. 2
- 212807130727. 3
- 212807130728. 4

Question Number : 1103 Question Id : 21280732683 Question Type : MCQ Option Shuffling : No Is Question Mandatory : No Calculator : None Response Time : N.A Think Time : N.A Minimum Instruction Time : 0

Correct Marks : 5 Wrong Marks : 1

Question Key Details :

Key	Value
Comprehension	MCQ

The genre of the “Bhag Milkha Bhag” is -

- (1) Epic
- (2) Biopic
- (3) Documentary
- (4) Commercial

Options :

- 212807130729. 1
- 212807130730. 2
- 212807130731. 3
- 212807130732. 4

Question Number : 1103 Question Id : 21280732683 Question Type : MCQ Option Shuffling : No Is Question Mandatory : No Calculator : None Response Time : N.A Think Time : N.A Minimum Instruction Time : 0

Correct Marks : 5 Wrong Marks : 1

Question Key Details :

Key	Value
Comprehension	MCQ

भाग मिल्खा भाग की विधा है

- (1) महाकाव्य
- (2) जीवन पर आधारित पिक्चर
- (3) वृत्तचित्र
- (4) व्यापारिक

Options :

- 212807130729. 1
- 212807130730. 2
- 212807130731. 3
- 212807130732. 4

Question Number : 1104 Question Id : 21280732684 Question Type : MCQ Option Shuffling : No Is Question Mandatory : No Calculator : None Response Time : N.A Think Time : N.A Minimum Instruction Time : 0

Correct Marks : 5 Wrong Marks : 1

Question Key Details :

Key	Value
Comprehension	MCQ

The character of Saamiya Siddiqui in the Hindi film ‘Veer-Zaara’ is based on which human rights activist ?

- (1) Farida Khan
- (2) Saeeda Hamid
- (3) Rokeya Shekhawat
- (4) Asma Jaehangir

Options :

212807130733. 1
212807130734. 2
212807130735. 3
212807130736. 4

Question Number : 1104 Question Id : 21280732684 Question Type : MCQ Option Shuffling : No Is Question Mandatory : No Calculator : None
Response Time : N.A Think Time : N.A Minimum Instruction Time : 0

Correct Marks : 5 Wrong Marks : 1

Question Key Details :

Key	Value
Comprehension	MCQ

हिन्दी फिल्म 'वीर जारा में सामिया सिद्धिकी का चरित किस मानव अधिकार कार्यकर्ता पर आधारित है।

- (1) फरीदा खान
- (2) सईदा हामिद
- (3) रूकैया शेखावत
- (4) आसमा जहांगीर

Options :

212807130733. 1
212807130734. 2
212807130735. 3
212807130736. 4

Question Number : 1105 Question Id : 21280732685 Question Type : MCQ Option Shuffling : No Is Question Mandatory : No Calculator : None
Response Time : N.A Think Time : N.A Minimum Instruction Time : 0

Correct Marks : 5 Wrong Marks : 1

Question Key Details :

Key	Value
Comprehension	MCQ

The documentary 'The Elephant Whisperers' is based on :

- (1) Biological differences between animals and humans.
- (2) Exploitation of animals by humans.
- (3) Bond between humans and animals
- (4) Training of animals by humans.

Options :

212807130737. 1
212807130738. 2
212807130739. 3
212807130740. 4

Question Number : 1105 Question Id : 21280732685 Question Type : MCQ Option Shuffling : No Is Question Mandatory : No Calculator : None
Response Time : N.A Think Time : N.A Minimum Instruction Time : 0

Correct Marks : 5 Wrong Marks : 1

Question Key Details :

Key	Value
Comprehension	MCQ

दि एलिफैंट व्हिस्परर्स _____ वृत्तचित्र पर आधारित है :

- (1) मनुष्यों तथा जानवरों में जैवीय अन्तर
- (2) मनुष्यों द्वारा जानवरों का शोषण
- (3) मनुष्यों तथा जानवरों की बीच बन्धन
- (4) मनुष्यों द्वारा जानवरों का प्रशिक्षण

Options :

212807130737. 1

212807130738. 2
212807130739. 3
212807130740. 4

Question Number : 1106 Question Id : 21280732686 Question Type : MCQ Option Shuffling : No Is Question Mandatory : No Calculator : None
Response Time : N.A Think Time : N.A Minimum Instruction Time : 0

Correct Marks : 5 Wrong Marks : 1

Question Key Details :

Key	Value
Comprehension	MCQ

'Why I am not a Hindu' is written by :

- (1) Omprakash Valmiki
- (2) Sharan kumar Limbale
- (3) Kancha Illaiah
- (4) Kanshi Ram

Options :

212807130741. 1
212807130742. 2
212807130743. 3
212807130744. 4

Question Number : 1106 Question Id : 21280732686 Question Type : MCQ Option Shuffling : No Is Question Mandatory : No Calculator : None
Response Time : N.A Think Time : N.A Minimum Instruction Time : 0

Correct Marks : 5 Wrong Marks : 1

Question Key Details :

Key	Value
Comprehension	MCQ

'व्हाई आई ऐम नॉट अ हिन्दु' _____ द्वारा लिखित है :

- (1) ओमप्रकाश वाल्मीकि
- (2) शरण कुमार लिम्बाले
- (3) कांचा इलाइहा
- (4) कांशी राम

Options :

212807130741. 1
212807130742. 2
212807130743. 3
212807130744. 4

Question Number : 1107 Question Id : 21280732687 Question Type : MCQ Option Shuffling : No Is Question Mandatory : No Calculator : None
Response Time : N.A Think Time : N.A Minimum Instruction Time : 0

Correct Marks : 5 Wrong Marks : 1

Question Key Details :

Key	Value
Comprehension	MCQ

In this movie, a woman with visual and hearing impairment is taught by her teacher to lead a life of dignity. The name of the movie is

- (1) Black
- (2) Pink
- (3) Blue
- (4) Snowfall

Options :

212807130745. 1
212807130746. 2

212807130747. 3
212807130748. 4

Question Number : 1107 Question Id : 21280732687 Question Type : MCQ Option Shuffling : No Is Question Mandatory : No Calculator : None
Response Time : N.A Think Time : N.A Minimum Instruction Time : 0
Correct Marks : 5 Wrong Marks : 1

Question Key Details :

Key	Value
Comprehension	MCQ

इस चलचित्र में एक दृश्य श्रव्य अपंग महिला अपने शिक्षक से सम्मानपूर्वक जीवन जीना सीखती है। उस चलचित्र का नाम है:

- (1) ब्लैक
- (2) पिंक
- (3) ब्ल्यू
- (4) स्नोफॉल

Options :

212807130745. 1
212807130746. 2
212807130747. 3
212807130748. 4

Question Number : 1108 Question Id : 21280732688 Question Type : MCQ Option Shuffling : No Is Question Mandatory : No Calculator : None
Response Time : N.A Think Time : N.A Minimum Instruction Time : 0
Correct Marks : 5 Wrong Marks : 1

Question Key Details :

Key	Value
Comprehension	MCQ

This film has shown the normalisation of violence and inequality in a domestic setting. The name of this film is -

- (1) Raazi
- (2) Article 15
- (3) Dostana
- (4) Thappad

Options :

212807130749. 1
212807130750. 2
212807130751. 3
212807130752. 4

Question Number : 1108 Question Id : 21280732688 Question Type : MCQ Option Shuffling : No Is Question Mandatory : No Calculator : None
Response Time : N.A Think Time : N.A Minimum Instruction Time : 0
Correct Marks : 5 Wrong Marks : 1

Question Key Details :

Key	Value
Comprehension	MCQ

धरेलू वातावरण में हिंसा तथा असमानता को इस चलचित्र में दर्शाया गया है। इस चलचित्र का नाम है -

- (1) राजी
- (2) अनुच्छेद 15
- (3) दोस्ताना
- (4) थप्पड़

Options :

212807130749. 1

212807130750. 2
212807130751. 3
212807130752. 4

Question Number : 1109 Question Id : 21280732689 Question Type : MCQ Option Shuffling : No Is Question Mandatory : No Calculator : None
Response Time : N.A Think Time : N.A Minimum Instruction Time : 0

Correct Marks : 5 Wrong Marks : 1

Question Key Details :

Key	Value
Comprehension	MCQ

Which of the following is the theme of the short story 'Parrot's Training' by Rabindranath Tagore?

- (1) The Child's freedom is at the centre of education system.
- (2) The infrastructure is not at the centre of education system.
- (3) The child is at the centre of education system.
- (4) The child is not at the centre of education system.

Options :

212807130753. 1
212807130754. 2
212807130755. 3
212807130756. 4

Question Number : 1109 Question Id : 21280732689 Question Type : MCQ Option Shuffling : No Is Question Mandatory : No Calculator : None
Response Time : N.A Think Time : N.A Minimum Instruction Time : 0

Correct Marks : 5 Wrong Marks : 1

Question Key Details :

Key	Value
Comprehension	MCQ

रबीन्द्र नाथ टैगौर द्वारा लिखित लघु कथा 'पैरट्स ट्रेनिंग' की विषयवस्तु निम्नलिखित में से कौनसी है ?

- (1) The Child's freedom is at the centre of education system. (शिक्षा प्रणाली के केन्द्र में बच्चे की स्वन्त्रता)
- (2) The infrastructure is not at the centre of education system. (अधिरचना शिक्षा प्रणाली के केन्द्र में नहीं)
- (3) The child is at the centre of education system. (शिक्षा प्रणाली के केन्द्र में बच्चा)
- (4) The child is not at the centre of education system. (शिक्षा प्रणाली के केन्द्र में बच्चा नहीं)

Options :

212807130753. 1
212807130754. 2
212807130755. 3
212807130756. 4

Question Number : 1110 Question Id : 21280732690 Question Type : MCQ Option Shuffling : No Is Question Mandatory : No Calculator : None
Response Time : N.A Think Time : N.A Minimum Instruction Time : 0

Correct Marks : 5 Wrong Marks : 1

Question Key Details :

Key	Value
Comprehension	MCQ

Which of the following ideas can not be taught using George Orwell's 'Animal farm' ?

- (1) Totalitarianism
- (2) Fascism
- (3) Propaganda
- (4) Compassion

Options :

212807130757. 1
212807130758. 2
212807130759. 3

Question Number : 1110 Question Id : 21280732690 Question Type : MCQ Option Shuffling : No Is Question Mandatory : No Calculator : None
Response Time : N.A Think Time : N.A Minimum Instruction Time : 0

Correct Marks : 5 Wrong Marks : 1

Question Key Details :

Key	Value
Comprehension	MCQ

जॉर्ज औवैल की 'एनिमल फार्म का प्रयोग करते हुए निम्नलिखित में से कौनसा विचार नहीं पढ़ाया जा सकता है?

- (1) एकदलतंत्र
- (2) दक्षिणपंथी राजनैतिक विचारधारा
- (3) मत प्रचार
- (4) संवेदना

Options :

212807130757. 1

212807130758. 2

212807130759. 3

212807130760. 4

Sub-Section Number :

2

Sub-Section Id :

2128072551

Question Shuffling Allowed :

No

Is Section Default? :

null

Question Number : 1111 Question Id : 21280732691 Question Type : MCQ Option Shuffling : No Is Question Mandatory : No Calculator : None
Response Time : N.A Think Time : N.A Minimum Instruction Time : 0

Correct Marks : 5 Wrong Marks : 1

Question Key Details :

Key	Value
Comprehension	Comp1

Read the passage given below and answer the question :

It would be easy to compile a book full of disturbing stories about schools and classrooms where neatness, mechanical accuracy, and orthodoxy of opinion - i.e., agreeing with the teacher's spoken or even unspoken notions of what is right and proper for children to believe and say - count for far more than honest, independent, original expression. It is still common in a great many schools to fail answer sheets that have more than a very few errors in grammar, punctuation, or spelling, regardless of any other merit they might have. Not long an answer, entirely free of any mechanical errors and otherwise well written, was failed because student wrote it in three colours of ink. And this was in a 'good' school system. But the real reason that our schools do not turn out people, who can use language simply and strongly, let alone beautifully, lies deeper. It is that with very few exceptions the schools, from kindergarten through graduate school, do not give a damn what the students think. Think, care about, or want to know. What counts is what the system has decided they shall be made to learn.

If we are to make real progress in improving student writing, the first lesson we have to learn is this: a student will be concerned with his own use of language, and therefore try to judge its effectiveness, only when he is talking to an audience, and not just one that allows him to say what he wants as he wants, but one that takes him and his ideas seriously.

The author is _____ of mechanical accuracy in schools.

- (1) Appreciative
- (2) Explorative
- (3) Encouraging
- (4) Critical

Options :

212807130761. 1
212807130762. 2
212807130763. 3
212807130764. 4

Question Number : 1111 Question Id : 21280732691 Question Type : MCQ Option Shuffling : No Is Question Mandatory : No Calculator : None
Response Time : N.A Think Time : N.A Minimum Instruction Time : 0

Correct Marks : 5 Wrong Marks : 1

Question Key Details :

Key	Value
Comprehension	Compl

एक ऐसी पुस्तक का संयोजन करना सरल है जो विद्यालय तथा कक्षा के विषय में चिंतित करने वाली कहानियों से भरी हुयी हो तथा जहां ईमानदारी, स्वतंत्र तथा मौलिक अभिव्यक्ति के स्थान पर स्वच्छता, यंत्रवत परिशुद्धता जैसे : शिक्षक के बोले अथवा अबोले विचारों को स्वीकार करना कि बालकों को क्या बोलना चाहिए तथा किस बात पर विश्वास करना चाहिए। आज भी यह सामान्य बात है कि बहुत सारे विद्यालयों में उन उत्तर पुस्तिकाओं को अनुत्तीर्ण कर दिया जाता है जिनमें व्याकरण, विराम चिन्ह आदि अथवा वर्तनी सम्बन्धित बहुत कम से अधिक गलतियां हैं, इस बात की परवाह किये बिना कि उनमें दूसरे गुण हैं, बहुत पुरानी बात नहीं है जब एक उत्तर जिसने यंत्रवत गलतियां नहीं थी लेकिन वह अच्छी तरह लिखा गया था – को केवल इसलिये अनुत्तीर्ण कर दिया क्योंकि विद्यार्थी ने उसे तीन रंगों में लिखा था। तथा यह एक अच्छे विद्यालय प्रणाली में था। लेकिन वास्तविक कारण इससे अधिक गहन है कि हमारे विद्यालय उन लोगों को यूं ही नहीं निरस्त कर देते जो न केवल सुन्दर लिखते हैं वरन् सरलता तथा दृढ़ता से लिखते हैं। यह तथ्य है कि बालोद्यान से लेकर स्नातक स्तर तक के विद्यालय में बिना किसी अपवाद के इस बात पर ध्यान देते हैं विद्यार्थी क्या सोचते हैं, परवाह करते हैं अथवा जानना चाहते हैं। उन्हें केवल इस बात से मतलब है कि प्रणाली ने उन्हें क्या सिखाने का निश्चय किया है।

यदि हम विद्यार्थियों के लेखन में सुधार करने में वास्तविक प्रगति चाहते हैं तो हमें सर्वप्रथम यह पाठ सीखना पड़ेगा कि विद्यार्थी अपनी स्वयं की भाषा के प्रयोग के विषय में विचार करें तथा फलस्वरूप उसके प्रभावी होने का मूल्यांकन करे, केवल जब वह एक श्रोता से वार्तालाप कर रहा हो तथा केवल वह नहीं जो उसे वही बोलने की अनुमति देता है जो वह सुनना चाहता है बल्कि जो उसको तथा उसके विचारों को गम्भीरता से ले।

लेखक विद्यालयों में यान्त्रिक त्रुटिहीनता का _____ है :

- (1) प्रशंसक
- (2) अंवेशणात्मक
- (3) उत्साहवर्धक
- (4) आलोचक

Options :

212807130761. 1
212807130762. 2
212807130763. 3
212807130764. 4

Question Number : 1112 Question Id : 21280732692 Question Type : MCQ Option Shuffling : No Is Question Mandatory : No Calculator : None
Response Time : N.A Think Time : N.A Minimum Instruction Time : 0

Correct Marks : 5 Wrong Marks : 1

Question Key Details :

Key	Value
Comprehension	Compl

Read the passage given below and answer the question :

It would be easy to compile a book full of disturbing stories about schools and classrooms where neatness, mechanical accuracy, and orthodoxy of opinion - i.e., agreeing with the teacher's spoken or even unspoken notions of what is right and proper for children to believe and say - count for far more than honest, independent, original expression. It is still common in a great many schools to fail answer sheets that have more than a very few errors in grammar, punctuation, or spelling, regardless of any other merit they might have. Not long an answer, entirely free of any mechanical errors and otherwise well written, was failed because student wrote it in three colours of ink. And this was in a 'good' school system. But the real reason that our schools do not turn out people, who can use language simply and strongly, let alone beautifully, lies deeper. It is that with very few exceptions the schools, from kindergarten through graduate school, do not give a damn what the students think. Think, care about, or want to know. What counts is what the system has decided they shall be made to learn.

If we are to make real progress in improving student writing, the first lesson we have to learn is this: a student will be concerned with his own use of language, and therefore try to judge its effectiveness, only when he is talking to an audience, and not just one that allows him to say what he wants as he wants, but one that takes him and his ideas seriously.

Given below are two statements : one is labelled as **Assertion (A)** and the other is labeled as **Reason (R)**.

Assertion (A) : It is common in schools to fail students' answer sheets.

Reason (R) : The quality of writing is given more importance than spelling and grammar.

In the light of the above statements, choose the **correct answer** from the options given below :

- (1) Both **(A)** and **(R)** are true and **(R)** is the correct explanation of **(A)**
- (2) Both **(A)** and **(R)** are true but **(R)** is not the correct explanation of **(A)**
- (3) **(A)** is true but **(R)** is false
- (4) **(A)** is false but **(R)** is true

Options :

- 212807130765. 1
- 212807130766. 2
- 212807130767. 3
- 212807130768. 4

Question Number : 1112 Question Id : 21280732692 Question Type : MCQ Option Shuffling : No Is Question Mandatory : No Calculator : None Response Time : N.A Think Time : N.A Minimum Instruction Time : 0

Correct Marks : 5 Wrong Marks : 1

Question Key Details :

Key	Value
Comprehension	Comp1

एक ऐसी पुस्तक का संयोजन करना सरल है जो विद्यालय तथा कक्षा के विषय में चिंतित करने वाली कहानियों से भरी हुयी हो तथा जहां ईमानदारी, स्वतंत्र तथा मौलिक अभिव्यक्ति के स्थान पर स्वच्छता, यंत्रवत परिशुद्धता जैसे : शिक्षक के बोले अथवा अबोले विचारों को स्वीकार करना कि बालकों को क्या बोलना चाहिए तथा किस बात पर विश्वास करना चाहिए। आज भी यह सामान्य बात है कि बहुत सारे विद्यालयों में उन उत्तर पुस्तिकाओं को अनुत्तीर्ण कर दिया जाता है जिनमें व्याकरण, विराम चिन्ह आदि अथवा वर्तनी सम्बन्धित बहुत कम से अधिक गलतियां हैं, इस बात की परवाह किये बिना कि उनमें दूसरे गुण हैं, बहुत पुरानी बात नहीं है जब एक उत्तर जिसने यंत्रवत गलतियां नहीं थी लेकिन वह अच्छी तरह लिखा गया था – को केवल इसलिये अनुत्तीर्ण कर दिया क्योंकि विद्यार्थी ने उसे तीन रंगों में लिखा था। तथा यह एक अच्छे विद्यालय प्रणाली में था। लेकिन वास्तविक कारण इससे अधिक गहन है कि हमारे विद्यालय उन लोगों को यूं ही नहीं निरस्त कर देते जो न केवल सुन्दर लिखते हैं वरन् सरलता तथा दृढ़ता से लिखते हैं। यह तथ्य है कि बालोद्धान से लेकर स्नातक स्तर तक के विद्यालय में बिना किसी अपवाद के इस बात पर ध्यान देते हैं विद्यार्थी क्या सोचते हैं, परवाह करते हैं अथवा जानना चाहते हैं। उन्हें केवल इस बात से मतलब है कि प्रणाली ने उन्हें क्या सिखाने का निश्चय किया है।

यदि हम विद्यार्थियों के लेखन में सुधार करने में वास्तविक प्रगति चाहते हैं तो हमें सर्वप्रथम यह पाठ सीखना पड़ेगा कि विद्यार्थी अपनी स्वयं की भाषा के प्रयोग के विषय में विचार करें तथा फलस्वरूप उसके प्रभावी होने का मूल्यांकन करें, केवल जब वह एक श्रोता से वार्तालाप कर रहा हो तथा केवल वह नहीं जो उसे वही बोलने की अनुमति देता है जो वह सुनना चाहता है बल्कि जो उसको तथा उसके विचारों को गम्भीरता से ले।

नीचे दो कथन दिए गए हैं: एक **अभिकथन (A)** के रूप में लिखित है तो दूसरा उसके **कारण (R)** के रूप में है।

अभिकथन (A) : विद्यालय में विद्यार्थियों की उत्तर-पुस्तिका को अनुत्तीर्ण करना सामान्य है।

कारण (R) : वर्तनी तथा व्याकरण की अपेक्षा लेखन की गुणवत्ता को अधिक महत्व दिया जाता है।

उपरोक्त कथन के आलोक में, नीचे दिए गए विकल्पों में से **सही उत्तर** चयन कीजिए :

- (1) दोनों (A) और (R) सत्य है और (R), (A) की सही व्याख्या है
- (2) दोनों (A) और (R) सत्य है लेकिन (R), (A) की सही व्याख्या नहीं है
- (3) (A) सत्य है, लेकिन (R) असत्य है
- (4) (A) असत्य है, लेकिन (R) सत्य है

Options :

212807130765. 1

212807130766. 2

212807130767. 3

212807130768. 4

Question Number : 1113 Question Id : 21280732693 Question Type : MCQ Option Shuffling : No Is Question Mandatory : No Calculator : None Response Time : N.A Think Time : N.A Minimum Instruction Time : 0

Correct Marks : 5 Wrong Marks : 1

Question Key Details :

Key	Value
Comprehension	Compl

Read the passage given below and answer the question :

It would be easy to compile a book full of disturbing stories about schools and classrooms where neatness, mechanical accuracy, and orthodoxy of opinion - i.e., agreeing with the teacher's spoken or even unspoken notions of what is right and proper for children to believe and say - count for far more than honest, independent, original expression. It is still common in a great many schools to fail answer sheets that have more than a very few errors in grammar, punctuation, or spelling, regardless of any other merit they might have. Not long an answer, entirely free of any mechanical errors and otherwise well written, was failed because student wrote it in three colours of ink. And this was in a 'good' school system. But the real reason that our schools do not turn out people, who can use language simply and strongly, let alone beautifully, lies deeper. It is that with very few exceptions the schools, from kindergarten through graduate school, do not give a damn what the students think. Think, care about, or want to know. What counts is what the system has decided they shall be made to learn.

If we are to make real progress in improving student writing, the first lesson we have to learn is this: a student will be concerned with his own use of language, and therefore try to judge its effectiveness, only when he is talking to an audience, and not just one that allows him to say what he wants as he wants, but one that takes him and his ideas seriously.

According to the passage what is the reason behind schools' inability to enhance students' ability to express and use language strongly ?

- (1) Overemphasis on thought processes
- (2) Focus on individuality
- (3) Neglect of grammar rules
- (4) Disregard of thought - processes

Options :

212807130769. 1

212807130770. 2

212807130771. 3

212807130772. 4

Question Number : 1113 Question Id : 21280732693 Question Type : MCQ Option Shuffling : No Is Question Mandatory : No Calculator : None

Response Time : N.A Think Time : N.A Minimum Instruction Time : 0

Correct Marks : 5 Wrong Marks : 1

Question Key Details :

Key	Value
Comprehension	Compl

एक ऐसी पुस्तक का संयोजन करना सरल है जो विद्यालय तथा कक्षा के विषय में चिंतित करने वाली कहानियों से भरी हुयी हो तथा जहां ईमानदारी, स्वतंत्र तथा मौलिक अभिव्यक्ति के स्थान पर स्वच्छता, यंत्रवत परिशुद्धता जैसे : शिक्षक के बोले अथवा अबोले विचारों को स्वीकार करना कि बालकों को क्या बोलना चाहिए तथा किस बात पर विश्वास करना चाहिए। आज भी यह सामान्य बात है कि बहुत सारे विद्यालयों में उन उत्तर पुस्तिकाओं को अनुत्तीर्ण कर दिया जाता है जिनमें व्याकरण, विराम चिन्ह आदि अथवा वर्तनी सम्बन्धित बहुत कम से अधिक गलतियां हैं, इस बात की परवाह किये बिना कि उनमें दूसरे गुण हैं, बहुत पुरानी बात नहीं है जब एक उत्तर जिसने यंत्रवत गलतियां नहीं थी लेकिन वह अच्छी तरह लिखा गया था – को केवल इसलिये अनुत्तीर्ण कर दिया क्योंकि विद्यार्थी ने उसे तीन रंगों में लिखा था। तथा यह एक अच्छे विद्यालय प्रणाली में था। लेकिन वास्तविक कारण इससे अधिक गहन है कि हमारे विद्यालय उन लोगों को यूं ही नहीं निरस्त कर देते जो न केवल सुन्दर लिखते हैं वरन् सरलता तथा दृढ़ता से लिखते हैं। यह तथ्य है कि बालोद्धान से लेकर स्नातक स्तर तक के विद्यालय में बिना किसी अपवाद के इस बात पर ध्यान देते हैं विद्यार्थी क्या सोचते हैं, परवाह करते हैं अथवा जानना चाहते हैं। उन्हें केवल इस बात से मतलब है कि प्रणाली ने उन्हें क्या सिखाने का निश्चय किया है।

यदि हम विद्यार्थियों के लेखन में सुधार करने में वास्तविक प्रगति चाहते हैं तो हमें सर्वप्रथम यह पाठ सीखना पड़ेगा कि विद्यार्थी अपनी स्वयं की भाषा के प्रयोग के विषय में विचार करें तथा फलस्वरूप उसके प्रभावी होने का मूल्यांकन करें, केवल जब वह एक श्रोता से वार्तालाप कर रहा हो तथा केवल वह नहीं जो उसे वही बोलने की अनुमति देता है जो वह सुनना चाहता है बल्कि जो उसको तथा उसके विचारों को गम्भीरता से ले।

गद्यांश के आधार पर विद्यार्थियों की अभिव्यक्त करने तथा अच्छी तरह से भाषा का उपयोग करने की क्षमता को बढ़ाने में विद्यालयों की असमर्थता के क्या कारण हैं?

- (1) वैचारिक प्रक्रिया पर अत्याधिक बल देना
- (2) वैयक्तिकता पर ध्यान देना
- (3) व्याकरण के नियमों को अनदेखा करना
- (4) वैचारिक प्रक्रियाओं का तिरस्कार करना

Options :

212807130769. 1

212807130770. 2

212807130771. 3

212807130772. 4

Question Number : 1114 Question Id : 21280732694 Question Type : MCQ Option Shuffling : No Is Question Mandatory : No Calculator : None Response Time : N.A Think Time : N.A Minimum Instruction Time : 0

Correct Marks : 5 Wrong Marks : 1

Question Key Details :

Key	Value
Comprehension	Comp1

Read the passage given below and answer the question :

It would be easy to compile a book full of disturbing stories about schools and classrooms where neatness, mechanical accuracy, and orthodoxy of opinion - i.e., agreeing with the teacher's spoken or even unspoken notions of what is right and proper for children to believe and say - count for far more than honest, independent, original expression. It is still common in a great many schools to fail answer sheets that have more than a very few errors in grammar, punctuation, or spelling, regardless of any other merit they might have. Not long an answer, entirely free of any mechanical errors and otherwise well written, was failed because student wrote it in three colours of ink. And this was in a 'good' school system. But the real reason that our schools do not turn out people, who can use language simply and strongly, let alone beautifully, lies deeper. It is that with very few exceptions the schools, from kindergarten through graduate school, do not give a damn what the students think. Think, care about, or want to know. What counts is what the system has decided they shall be made to learn.

If we are to make real progress in improving student writing, the first lesson we have to learn is this: a student will be concerned with his own use of language, and therefore try to judge its effectiveness, only when he is talking to an audience, and not just one that allows him to say what he wants as he wants, but one that takes him and his ideas seriously.

According to the author, which of the following would help to improve students' writing skills?

- (A) Pay attention to his thinking and punctuation.
- (B) Attempt to evaluate his own use of language.
- (C) Talk to an audience that takes him seriously.
- (D) Interact with an audience that is unconditionally applauding.
- (E) Interact with an audience that is critical and dismissive

Choose the correct answer from the options given below :

- (1) (B) & (C) Only
- (2) (B) & (D) Only
- (3) (A), (B) & (C) Only
- (4) (C) (D) & (E) Only

Options :

- 212807130773. 1
- 212807130774. 2
- 212807130775. 3
- 212807130776. 4

Question Number : 1114 Question Id : 21280732694 Question Type : MCQ Option Shuffling : No Is Question Mandatory : No Calculator : None Response Time : N.A Think Time : N.A Minimum Instruction Time : 0

Correct Marks : 5 Wrong Marks : 1

Question Key Details :

Key	Value
Comprehension	Compl

एक ऐसी पुस्तक का संयोजन करना सरल है जो विद्यालय तथा कक्षा के विषय में चिंतित करने वाली कहानियों से भरी हुयी हो तथा जहां ईमानदारी, स्वतंत्र तथा मौलिक अभिव्यक्ति के स्थान पर स्वच्छता, यंत्रवत परिशुद्धता जैसे : शिक्षक के बोले अथवा अबोले विचारों को स्वीकार करना कि बालकों को क्या बोलना चाहिए तथा किस बात पर विश्वास करना चाहिए। आज भी यह सामान्य बात है कि बहुत सारे विद्यालयों में उन उत्तर पुस्तिकाओं को अनुत्तीर्ण कर दिया जाता है जिनमें व्याकरण, विराम चिन्ह आदि अथवा वर्तनी सम्बन्धित बहुत कम से अधिक गलतियां हैं, इस बात की परवाह किये बिना कि उनमें दूसरे गुण हैं, बहुत पुरानी बात नहीं है जब एक उत्तर जिसने यंत्रवत गलतियां नहीं थी लेकिन वह अच्छी तरह लिखा गया था – को केवल इसलिये अनुत्तीर्ण कर दिया क्योंकि विद्यार्थी ने उसे तीन रंगों में लिखा था। तथा यह एक अच्छे विद्यालय प्रणाली में था। लेकिन वास्तविक कारण इससे अधिक गहन है कि हमारे विद्यालय उन लोगों को यूं ही नहीं निरस्त कर देते जो न केवल सुन्दर लिखते हैं वरन् सरलता तथा दृढ़ता से लिखते हैं। यह तथ्य है कि बालोद्धान से लेकर स्नातक स्तर तक के विद्यालय में बिना किसी अपवाद के इस बात पर ध्यान देते हैं विद्यार्थी क्या सोचते हैं, परवाह करते हैं अथवा जानना चाहते हैं। उन्हें केवल इस बात से मतलब है कि प्रणाली ने उन्हें क्या सिखाने का निश्चय किया है।

यदि हम विद्यार्थियों के लेखन में सुधार करने में वास्तविक प्रगति चाहते हैं तो हमें सर्वप्रथम यह पाठ सीखना पड़ेगा कि विद्यार्थी अपनी स्वयं की भाषा के प्रयोग के विषय में विचार करें तथा फलस्वरूप उसके प्रभावी होने का मूल्यांकन करें, केवल जब वह एक श्रोता से वार्तालाप कर रहा हो तथा केवल वह नहीं जो उसे वही बोलने की अनुमति देता है जो वह सुनना चाहता है बल्कि जो उसको तथा उसके विचारों को गम्भीरता से ले।

लेखक के अनुसार निम्नलिखित में से कौन सा विकल्प विद्यार्थियों के लेखन कौशल को सुधारने में सहायक होंगे ?

- (A) उसकी विचार शक्ति तथा बिन्दु।
- (B) उसके स्वयं के भाषा के प्रयोग के मूल्यांकन का प्रयास करना
- (C) ऐसे श्रोताओं से बात करना जो उसे गम्भीरता से लेते हों
- (D) ऐसे श्रोताओं से परस्पर वार्तालाप करना जो बिना शर्त प्रशंसा करते हैं।
- (E) ऐसे श्रोताओं से वार्तालाप करना जो आलोचक तथा उपेक्षाशील हैं।

नीचे दिए गए विकल्पों में से सही उत्तर का चयन कीजिए :

- (1) केवल (B) और (C)
- (2) केवल (B) और (D)
- (3) केवल (A), (B) और (C)
- (4) केवल (C) (D) और (E)

Options :

- 212807130773. 1
- 212807130774. 2
- 212807130775. 3
- 212807130776. 4

Question Number : 1115 Question Id : 21280732695 Question Type : MCQ Option Shuffling : No Is Question Mandatory : No Calculator : None Response Time : N.A Think Time : N.A Minimum Instruction Time : 0

Correct Marks : 5 Wrong Marks : 1

Question Key Details :

Key	Value
Comprehension	Comp1

Read the passage given below and answer the question :

It would be easy to compile a book full of disturbing stories about schools and classrooms where neatness, mechanical accuracy, and orthodoxy of opinion - i.e., agreeing with the teacher's spoken or even unspoken notions of what is right and proper for children to believe and say - count for far more than honest, independent, original expression. It is still common in a great many schools to fail answer sheets that have more than a very few errors in grammar, punctuation, or spelling, regardless of any other merit they might have. Not long an answer, entirely free of any mechanical errors and otherwise well written, was failed because student wrote it in three colours of ink. And this was in a 'good' school system. But the real reason that our schools do not turn out people, who can use language simply and strongly, let alone beautifully, lies deeper. It is that with very few exceptions the schools, from kindergarten through graduate school, do not give a damn what the students think. Think, care about, or want to know. What counts is what the system has decided they shall be made to learn.

If we are to make real progress in improving student writing, the first lesson we have to learn is this: a student will be concerned with his own use of language, and therefore try to judge its effectiveness, only when he is talking to an audience, and not just one that allows him to say what he wants as he wants, but one that takes him and his ideas seriously.

According to the passage what does the school system pay attention to ?

- (1) Students thinking abilities.
- (2) System approved knowledge.
- (3) Nurturing students curiosity.
- (4) Using language beautifully.

Options :

- 212807130777. 1
- 212807130778. 2
- 212807130779. 3
- 212807130780. 4

Question Number : 1115 Question Id : 21280732695 Question Type : MCQ Option Shuffling : No Is Question Mandatory : No Calculator : None Response Time : N.A Think Time : N.A Minimum Instruction Time : 0

Correct Marks : 5 Wrong Marks : 1

Question Key Details :

Key	Value
Comprehension	Comp1

एक ऐसी पुस्तक का संयोजन करना सरल है जो विद्यालय तथा कक्षा के विषय में चिंतित करने वाली कहानियों से भरी हुयी हो तथा जहां ईमानदारी, स्वतंत्र तथा मौलिक अभिव्यक्ति के स्थान पर स्वच्छता, यंत्रवत परिशुद्धता जैसे : शिक्षक के बोले अथवा अबोले विचारों को स्वीकार करना कि बालकों को क्या बोलना चाहिए तथा किस बात पर विश्वास करना चाहिए। आज भी यह सामान्य बात है कि बहुत सारे विद्यालयों में उन उत्तर पुस्तिकाओं को अनुत्तीर्ण कर दिया जाता है जिनमें व्याकरण, विराम चिन्ह आदि अथवा वर्तनी सम्बन्धित बहुत कम से अधिक गलतियां हैं, इस बात की परवाह किये बिना कि उनमें दूसरे गुण हैं, बहुत पुरानी बात नहीं है जब एक उत्तर जिसने यंत्रवत गलतियां नहीं थी लेकिन वह अच्छी तरह लिखा गया था – को केवल इसलिये अनुत्तीर्ण कर दिया क्योंकि विद्यार्थी ने उसे तीन रंगों में लिखा था। तथा यह एक अच्छे विद्यालय प्रणाली में था। लेकिन वास्तविक कारण इससे अधिक गहन है कि हमारे विद्यालय उन लोगों को यूं ही नहीं निरस्त कर देते जो न केवल सुन्दर लिखते हैं वरन् सरलता तथा दृढ़ता से लिखते हैं। यह तथ्य है कि बालोद्धान से लेकर स्नातक स्तर तक के विद्यालय में बिना किसी अपवाद के इस बात पर ध्यान देते हैं विद्यार्थी क्या सोचते हैं, परवाह करते हैं अथवा जानना चाहते हैं। उन्हें केवल इस बात से मतलब है कि प्रणाली ने उन्हें क्या सिखाने का निश्चय किया है।

यदि हम विद्यार्थियों के लेखन में सुधार करने में वास्तविक प्रगति चाहते हैं तो हमें सर्वप्रथम यह पाठ सीखना पड़ेगा कि विद्यार्थी अपनी स्वयं की भाषा के प्रयोग के विषय में विचार करें तथा फलस्वरूप उसके प्रभावी होने का मूल्यांकन करें, केवल जब वह एक श्रोता से वार्तालाप कर रहा हो तथा केवल वह नहीं जो उसे वही बोलने की अनुमति देता है जो वह सुनना चाहता है बल्कि जो उसको तथा उसके विचारों को गम्भीरता से ले।

गद्यांश के अनुसार विद्यालय प्रणाली किस बात पर ध्यान देती है?

- (1) विद्यार्थियों की विचार करने की क्षमता
- (2) प्रणाली द्वारा अनुमोदित ज्ञान
- (3) विद्यार्थियों की उत्सुकता को पोषण करना
- (4) भाषा का सुन्दरता से प्रयोग करना

Options :

212807130777. 1

212807130778. 2

212807130779. 3

212807130780. 4

Sub-Section Number :

3

Sub-Section Id :

2128072552

Question Shuffling Allowed :

No

Is Section Default? :

null

Question Number : 1116 Question Id : 21280732696 Question Type : MCQ Option Shuffling : No Is Question Mandatory : No Calculator : None Response Time : N.A Think Time : N.A Minimum Instruction Time : 0

Correct Marks : 5 Wrong Marks : 1

Question Key Details :

Key	Value
Comprehension	Comp2

Read the passage given below and answer the question :

Education ought to be a guide in this more critical period of life and of school. The teacher must again be made aware of his limitations, as we have already established with regard to the teacher of the smaller child. For the small child, he had to "count his words." Here he must be sure of what he ought to do, of what he ought to say, and of the extent to which he must reply to questions.

It is essential for the child, in all periods of his life, to have the possibility of activities carried out by himself in order to preserve the equilibrium between acting and thinking. His thoughts could, in effect, have the tendency to lose themselves in abstraction by reasoning without end just as the small child loses himself in a world of fantasy. We bring specific objects to the small child in an environment prepared for him. Here he acquires independence thanks to his own effort. And this activity gives him dignity. It is his own experience that brings him exact answers.

The role of education is to interest the child profoundly in an external activity to which he will give all his potential. We are concerned here with bringing him liberty and independence while interesting him in an activity through which he will subsequently discover reality. And for him this is the means by which he may free himself from the adult.

What is the role of education in a learner's life ?

- (A) Asserting agency
- (B) Discovering reality
- (C) Limiting the learner's abstract thinking
- (D) Realising the learner's full potential
- (E) Disciplining the learner's body

Choose the correct answer from the options given below :

- (1) (A), (B), (C) Only
- (2) (A), (B), (D) Only
- (3) (A), (B), (E) Only
- (4) (B), (D), (E) Only

Options :

212807130781. 1

212807130782. 2

212807130783. 3

212807130784. 4

Question Number : 1116 Question Id : 21280732696 Question Type : MCQ Option Shuffling : No Is Question Mandatory : No Calculator : None

Response Time : N.A Think Time : N.A Minimum Instruction Time : 0

Correct Marks : 5 Wrong Marks : 1

Question Key Details :

Key	Value
Comprehension	Comp2

जीवन तथा विद्यालय के इस गम्भीर काल में शिक्षा को मार्गदर्शन करना चाहिये, जैसे कि हमने छोटे बच्चों के शिक्षकों के विषय में पहले ही निर्धारित किया है कि शिक्षकों को उनकी सीमाओं से अलग होना चाहिये। छोटे बच्चे के लिये उसे अपने शब्दों को सोच समझकर बोलना चाहिये। यहाँ उसे यह निश्चित होना चाहिये कि वह क्या करे, उसे क्या कहना चाहिये तथा वह सीमा जहाँ तक उसे प्रश्नों का उत्तर देना चाहिये। जीवन के प्रत्येक काल में, बालक के लिये यह आवश्यक है कि कार्य करने तथा विचारने में संतुलन को संरक्षित रखने के लिये जो क्रियाएँ करने की सम्भावना हो उन्हें करे। उसके विचार, प्रभाव में अन्त के अभाव में तार्किकता का संक्षेपीकरण करने में स्वयं को भूल जाये जैसे कि एक छोटा बालक कल्पना की दुनिया में स्वयं को भूल जाता है। हम, एक छोटे बालक के लिये तैयार वातावरण में विशिष्ट उद्देश्य लाते हैं। यहाँ वह अपने प्रयासों के कारण स्वतंत्रता प्राप्त करता है तथा यह क्रिया उसे सम्मान प्रदान करती है। उसके स्वयं के अनुभव ही उसे त्रुटिहीन उत्तर दिलाते हैं।

शिक्षा की भूमिका है कि बालक को एक बाह्य क्रिया में रूचि उत्पन्न करें जिससे वह अपनी सम्पूर्ण क्षमताओं का प्रयोग कर सके। यहाँ हमारी, चिन्ता है कि हम उसे मनचाहा काम करने की छूट तथा स्वतंत्रता दे सकें तथा उसकी उस क्रिया में रूचि भी बनाये रख सकें। जिसके द्वारा वह कुछ समय पश्चात् वास्तविकता को खोज लेगा। तथा उसके लिये यही वह साधन है जिसके द्वारा वह अपने आपको वयस्कों से मुक्त कर लेगा।

एक शिक्षार्थी के जीवन में शिक्षा की क्या भूमिका है ?

- (A) दृढ़ता पूर्ण अभिकरण
- (B) वास्तविकता की खोज करना
- (C) शिक्षार्थी के अमूर्त चिन्तन को सीमित करना
- (D) बालक की सम्पूर्ण क्षमता का आभास होना
- (E) बालक के शरीर को अनुशासन में करना

नीचे दिए गए विकल्पों में से सही उत्तर का चयन कीजिए :

- (1) केवल (A), (B), (C)
- (2) केवल (A), (B), (D)
- (3) केवल (A), (B), (E)
- (4) केवल (B), (D), (E)

Options :

- 212807130781. 1
- 212807130782. 2
- 212807130783. 3
- 212807130784. 4

Question Number : 1117 Question Id : 21280732697 Question Type : MCQ Option Shuffling : No Is Question Mandatory : No Calculator : None Response Time : N.A Think Time : N.A Minimum Instruction Time : 0

Correct Marks : 5 Wrong Marks : 1

Question Key Details :

Key	Value
Comprehension	Comp2

Read the passage given below and answer the question :

Education ought to be a guide in this more critical period of life and of school. The teacher must again be made aware of his limitations, as we have already established with regard to the teacher of the smaller child. For the small child, he had to “count his words.” Here he must be sure of what he ought to do, of what he ought to say, and of the extent to which he must reply to questions.

It is essential for the child, in all periods of his life, to have the possibility of activities carried out by himself in order to preserve the equilibrium between acting and thinking. His thoughts could, in effect, have the tendency to lose themselves in abstraction by reasoning without end just as the small child loses himself in a world of fantasy. We bring specific objects to the small child in an environment prepared for him. Here he acquires independence thanks to his own effort. And this activity gives him dignity. It is his own experience that brings him exact answers.

The role of education is to interest the child profoundly in an external activity to which he will give all his potential. We are concerned here with bringing him liberty and independence while interesting him in an activity through which he will subsequently discover reality. And for him this is the means by which he may free himself from the adult.

How can a teacher ensure a fine balance between a learner’s conscious actions and abstract thinking ?

- (1) Demonstrating experiments only
- (2) Not engaging with abstract ideas
- (3) Activity-based learning
- (4) Punishing the child

Options :

- 212807130785. 1
- 212807130786. 2
- 212807130787. 3
- 212807130788. 4

Question Number : 1117 Question Id : 21280732697 Question Type : MCQ Option Shuffling : No Is Question Mandatory : No Calculator : None Response Time : N.A Think Time : N.A Minimum Instruction Time : 0

Correct Marks : 5 Wrong Marks : 1

Question Key Details :

Key	Value
Comprehension	Comp2

जीवन तथा विद्यालय के इस गम्भीर काल में शिक्षा को मार्गदर्शन करना चाहिये, जैसे कि हमने छोटे बच्चों के शिक्षकों के विषय में पहले ही निर्धारित किया है कि शिक्षकों को उनकी सीमाओं से अलग होना चाहिये। छोटे बच्चे के लिये उसे अपने शब्दों को सोच समझकर बोलना चाहिये। यहाँ उसे यह निश्चित होना चाहिये कि वह क्या करे, उसे क्या कहना चाहिये तथा वह सीमा जहाँ तक उसे प्रश्नों का उत्तर देना चाहिये। जीवन के प्रत्येक काल में, बालक के लिये यह आवश्यक है कि कार्य करने तथा विचारने में संतुलन को संरक्षित रखने के लिये जो क्रियाएँ करने की सम्भावना हो उन्हें करे। उसके विचार, प्रभाव में अन्त के अभाव में तार्किकता का संक्षेपीकरण करने में स्वयं को भूल जाये जैसे कि एक छोटा बालक कल्पना की दुनिया में स्वयं को भूल जाता है। हम, एक छोटे बालक के लिये तैयार वातावरण में विशिष्ट उद्देश्य लाते हैं। यहाँ वह अपने प्रयासों के कारण स्वतंत्रता प्राप्त करता है तथा यह क्रिया उसे सम्मान प्रदान करती है। उसके स्वयं के अनुभव ही उसे त्रुटिहीन उत्तर दिलाते हैं।

शिक्षा की भूमिका है कि बालक को एक बाह्य क्रिया में रूचि उत्पन्न करें जिससे वह अपनी सम्पूर्ण क्षमताओं का प्रयोग कर सके। यहाँ हमारी, चिन्ता है कि हम उसे मनचाहा काम करने की छूट तथा स्वतंत्रता दे सकें तथा उसकी उस क्रिया में रूचि भी बनाये रख सकें। जिसके द्वारा वह कुछ समय पश्चात् वास्तविकता को खोज लेगा। तथा उसके लिये यही वह साधन है जिसके द्वारा वह अपने आपको वयस्कों से मुक्त कर लेगा।

एक शिक्षक अपने शिक्षार्थी की सजग क्रियाओं तथा अमूर्त विचारों में संतुलन बनाये रखना सुनिश्चित कर सकता है?

- (1) केवल प्रयोगों का प्रदर्शन करके
- (2) अमूर्त विचारों में संलग्न न करके
- (3) क्रिया आधारित अधिगम
- (4) बालक को दण्ड देकर

Options :

212807130785. 1
 212807130786. 2
 212807130787. 3
 212807130788. 4

Question Number : 1118 Question Id : 21280732698 Question Type : MCQ Option Shuffling : No Is Question Mandatory : No Calculator : None
 Response Time : N.A Think Time : N.A Minimum Instruction Time : 0

Correct Marks : 5 Wrong Marks : 1

Question Key Details :

Key	Value
Comprehension	Comp2

Read the passage given below and answer the question :

Education ought to be a guide in this more critical period of life and of school. The teacher must again be made aware of his limitations, as we have already established with regard to the teacher of the smaller child. For the small child, he had to "count his words." Here he must be sure of what he ought to do, of what he ought to say, and of the extent to which he must reply to questions.

It is essential for the child, in all periods of his life, to have the possibility of activities carried out by himself in order to preserve the equilibrium between acting and thinking. His thoughts could, in effect, have the tendency to lose themselves in abstraction by reasoning without end just as the small child loses himself in a world of fantasy. We bring specific objects to the small child in an environment prepared for him. Here he acquires independence thanks to his own effort. And this activity gives him dignity. It is his own experience that brings him exact answers.

The role of education is to interest the child profoundly in an external activity to which he will give all his potential. We are concerned here with bringing him liberty and independence while interesting him in an activity through which he will subsequently discover reality. And for him this is the means by which he may free himself from the adult.

In a classroom, teachers often ask children to sit quietly. Based on your understanding of the passage, what should a teacher do in such scenarios :

- (1) Punish the learner
- (2) Give elaborate lectures about discipline
- (3) Not invade the learners' space
- (4) Make the learner conscious of his/her actions.

Options :

212807130789. 1

212807130790. 2

212807130791. 3

212807130792. 4

Question Number : 1118 Question Id : 21280732698 Question Type : MCQ Option Shuffling : No Is Question Mandatory : No Calculator : None Response Time : N.A Think Time : N.A Minimum Instruction Time : 0

Correct Marks : 5 Wrong Marks : 1

Question Key Details :

Key	Value
Comprehension	Comp2

जीवन तथा विद्यालय के इस गम्भीर काल में शिक्षा को मार्गदर्शन करना चाहिये, जैसे कि हमने छोटे बच्चों के शिक्षकों के विषय में पहले ही निर्धारित किया है कि शिक्षकों को उनकी सीमाओं से अलग होना चाहिये। छोटे बच्चे के लिये उसे अपने शब्दों को सोच समझकर बोलना चाहिये। यहाँ उसे यह निश्चित होना चाहिये कि वह क्या करे, उसे क्या कहना चाहिये तथा वह सीमा जहाँ तक उसे प्रश्नों का उत्तर देना चाहिये। जीवन के प्रत्येक काल में, बालक के लिये यह आवश्यक है कि कार्य करने तथा विचारने में संतुलन को संरक्षित रखने के लिये जो क्रियाएँ करने की सम्भावना हो उन्हें करे। उसके विचार, प्रभाव में अन्त के अभाव में तार्किकता का संक्षेपीकरण करने में स्वयं को भूल जाये जैसे कि एक छोटा बालक कल्पना की दुनिया में स्वयं को भूल जाता है। हम, एक छोटे बालक के लिये तैयार वातावरण में विशिष्ट उद्देश्य लाते हैं। यहाँ वह अपने प्रयासों के कारण स्वतंत्रता प्राप्त करता है तथा यह क्रिया उसे सम्मान प्रदान करती है। उसके स्वयं के अनुभव ही उसे त्रुटिहीन उत्तर दिलाते हैं।

शिक्षा की भूमिका है कि बालक को एक बाह्य क्रिया में रूचि उत्पन्न करें जिससे वह अपनी सम्पूर्ण क्षमताओं का प्रयोग कर सके। यहाँ हमारी, चिन्ता है कि हम उसे मनचाहा काम करने की छूट तथा स्वतंत्रता दे सकें तथा उसकी उस क्रिया में रूचि भी बनाये रख सकें। जिसके द्वारा वह कुछ समय पश्चात् वास्तविकता को खोज लेगा। तथा उसके लिये यही वह साधन है जिसके द्वारा वह अपने आपको वयस्कों से मुक्त कर लेगा।

कक्षा में शिक्षक प्रायः बालकों को चुप बैठने को कहते हैं। गद्यांश की अपनी समझ के आधार पर बताइये कि ऐसी परिस्थितियों में शिक्षक को क्या करना चाहिये?

- (1) शिक्षार्थी का दण्ड देना
- (2) अनुशासन के विषयों में व्यापक भाषण देना
- (3) शिक्षार्थी के अपने समय व स्थान का अतिक्रमण न करना
- (4) शिक्षार्थी को अपने कार्यों के प्रति सजग रहना

Options :

212807130789. 1
 212807130790. 2
 212807130791. 3
 212807130792. 4

Question Number : 1119 Question Id : 21280732699 Question Type : MCQ Option Shuffling : No Is Question Mandatory : No Calculator : None
 Response Time : N.A Think Time : N.A Minimum Instruction Time : 0

Correct Marks : 5 Wrong Marks : 1

Question Key Details :

Key	Value
Comprehension	Comp2

Read the passage given below and answer the question :

Education ought to be a guide in this more critical period of life and of school. The teacher must again be made aware of his limitations, as we have already established with regard to the teacher of the smaller child. For the small child, he had to "count his words." Here he must be sure of what he ought to do, of what he ought to say, and of the extent to which he must reply to questions.

It is essential for the child, in all periods of his life, to have the possibility of activities carried out by himself in order to preserve the equilibrium between acting and thinking. His thoughts could, in effect, have the tendency to lose themselves in abstraction by reasoning without end just as the small child loses himself in a world of fantasy. We bring specific objects to the small child in an environment prepared for him. Here he acquires independence thanks to his own effort. And this activity gives him dignity. It is his own experience that brings him exact answers.

The role of education is to interest the child profoundly in an external activity to which he will give all his potential. We are concerned here with bringing him liberty and independence while interesting him in an activity through which he will subsequently discover reality. And for him this is the means by which he may free himself from the adult.

Why is it important to engage with a learner's personal experience in the classroom ?

- (1) For participating in the knowledge making process
- (2) For the purpose of assessment
- (3) To recognise the limitations of the learner
- (4) To discipline the mind

Options :

212807130793. 1

212807130794. 2

212807130795. 3

212807130796. 4

Question Number : 1119 Question Id : 21280732699 Question Type : MCQ Option Shuffling : No Is Question Mandatory : No Calculator : None Response Time : N.A Think Time : N.A Minimum Instruction Time : 0

Correct Marks : 5 Wrong Marks : 1

Question Key Details :

Key	Value
Comprehension	Comp2

जीवन तथा विद्यालय के इस गम्भीर काल में शिक्षा को मार्गदर्शन करना चाहिये, जैसे कि हमने छोटे बच्चों के शिक्षकों के विषय में पहले ही निर्धारित किया है कि शिक्षकों को उनकी सीमाओं से अलग होना चाहिये। छोटे बच्चे के लिये उसे अपने शब्दों को सोच समझकर बोलना चाहिये। यहाँ उसे यह निश्चित होना चाहिये कि वह क्या करे, उसे क्या कहना चाहिये तथा वह सीमा जहाँ तक उसे प्रश्नों का उत्तर देना चाहिये। जीवन के प्रत्येक काल में, बालक के लिये यह आवश्यक है कि कार्य करने तथा विचारने में संतुलन को संरक्षित रखने के लिये जो क्रियाएँ करने की सम्भावना हो उन्हें करे। उसके विचार, प्रभाव में अन्त के अभाव में तार्किकता का संक्षेपीकरण करने में स्वयं को भूल जाये जैसे कि एक छोटा बालक कल्पना की दुनिया में स्वयं को भूल जाता है। हम, एक छोटे बालक के लिये तैयार वातावरण में विशिष्ट उद्देश्य लाते हैं। यहाँ वह अपने प्रयासों के कारण स्वतंत्रता प्राप्त करता है तथा यह क्रिया उसे सम्मान प्रदान करती है। उसके स्वयं के अनुभव ही उसे त्रुटिहीन उत्तर दिलाते हैं।

शिक्षा की भूमिका है कि बालक को एक बाह्य क्रिया में रूचि उत्पन्न करें जिससे वह अपनी सम्पूर्ण क्षमताओं का प्रयोग कर सके। यहाँ हमारी, चिन्ता है कि हम उसे मनचाहा काम करने की छूट तथा स्वतंत्रता दे सकें तथा उसकी उस क्रिया में रूचि भी बनाये रख सकें। जिसके द्वारा वह कुछ समय पश्चात् वास्तविकता को खोज लेगा। तथा उसके लिये यही वह साधन है जिसके द्वारा वह अपने आपको वयस्कों से मुक्त कर लेगा।

कक्षा में बालक के व्यक्तिगत अनुभव में व्यस्त रखना क्यों आवश्यक है?

- (1) ज्ञान प्रदान करने वाली क्रियाओं में भाग लेना
- (2) मूल्यांकन के लिये
- (3) शिक्षार्थी की सीमाओं को पहचानना
- (4) मन को अनुशासित रखना

Options :

212807130793. 1
 212807130794. 2
 212807130795. 3
 212807130796. 4

Question Number : 1120 Question Id : 21280732700 Question Type : MCQ Option Shuffling : No Is Question Mandatory : No Calculator : None
 Response Time : N.A Think Time : N.A Minimum Instruction Time : 0

Correct Marks : 5 Wrong Marks : 1

Question Key Details :

Key	Value
Comprehension	Comp2

Read the passage given below and answer the question :

Education ought to be a guide in this more critical period of life and of school. The teacher must again be made aware of his limitations, as we have already established with regard to the teacher of the smaller child. For the small child, he had to "count his words." Here he must be sure of what he ought to do, of what he ought to say, and of the extent to which he must reply to questions.

It is essential for the child, in all periods of his life, to have the possibility of activities carried out by himself in order to preserve the equilibrium between acting and thinking. His thoughts could, in effect, have the tendency to lose themselves in abstraction by reasoning without end just as the small child loses himself in a world of fantasy. We bring specific objects to the small child in an environment prepared for him. Here he acquires independence thanks to his own effort. And this activity gives him dignity. It is his own experience that brings him exact answers.

The role of education is to interest the child profoundly in an external activity to which he will give all his potential. We are concerned here with bringing him liberty and independence while interesting him in an activity through which he will subsequently discover reality. And for him this is the means by which he may free himself from the adult.

According to the passage, who is an ideal teacher ?

- (1) Has mastery over the subject
- (2) An efficient and disciplined teacher
- (3) Has access to resources
- (4) Aware of his or her limitations

Options :

212807130797. 1

212807130798. 2

212807130799. 3

212807130800. 4

Question Number : 1120 Question Id : 21280732700 Question Type : MCQ Option Shuffling : No Is Question Mandatory : No Calculator : None Response Time : N.A Think Time : N.A Minimum Instruction Time : 0

Correct Marks : 5 Wrong Marks : 1

Question Key Details :

Key	Value
Comprehension	Comp2

जीवन तथा विद्यालय के इस गम्भीर काल में शिक्षा को मार्गदर्शन करना चाहिये, जैसे कि हमने छोटे बच्चों के शिक्षकों के विषय में पहले ही निर्धारित किया है कि शिक्षकों को उनकी सीमाओं से अक्वगत होना चाहिये। छोटे बच्चे के लिये उसे अपने शब्दों को सोच समझकर बोलना चाहिये। यहाँ उसे यह निश्चित होना चाहिये कि वह क्या करे, उसे क्या कहना चाहिये तथा वह सीमा जहाँ तक उसे प्रश्नों का उत्तर देना चाहिये। जीवन के प्रत्येक काल में, बालक के लिये यह आवश्यक है कि कार्य करने तथा विचारने में संतुलन को संरक्षित रखने के लिये जो क्रियायें करने की सम्भावना हो उन्हें करे। उसके विचार, प्रभाव में अन्त के अभाव में तार्किकता का संक्षेपीकरण करने में स्वयं को भूल जाये जैसे कि एक छोटा बालक कल्पना की दुनिया में स्वयं को भूल जाता है। हम, एक छोटे बालक के लिये तैयार वातावरण में विशिष्ट उद्देश्य लाते हैं। यहाँ वह अपने प्रयासों के कारण स्वतंत्रता प्राप्त करता है तथा यह क्रिया उसे सम्मान प्रदान करती है। उसके स्वयं के अनुभव ही उसे त्रुटिहीन उत्तर दिलाते हैं।

शिक्षा की भूमिका है कि बालक को एक बाह्य क्रिया में रूचि उत्पन्न करें जिससे वह अपनी सम्पूर्ण क्षमताओं का प्रयोग कर सके। यहाँ हमारी, चिन्ता है कि हम उसे मनचाहा काम करने की छूट तथा स्वतंत्रता दे सकें तथा उसकी उस क्रिया में रूचि भी बनाये रख सकें। जिसके द्वारा वह कुछ समय पश्चात् वास्तविकता को खोज लेगा। तथा उसके लिये यही वह साधन है जिसके द्वारा वह अपने आपको वयस्कों से मुक्त कर लेगा।

गद्यांश के अनुसार एक आदर्श शिक्षक कौन है?

- (1) अपने विषय पर नियन्त्रण होना
- (2) एक कार्यकुशल तथा अनुशासित शिक्षक
- (3) संसाधनों तक पहुंच
- (4) अपनी सीमाओं के प्रति सजग

Options :

212807130797. 1
 212807130798. 2
 212807130799. 3
 212807130800. 4

Urdu

Group Number :	28
Group Id :	212807752
Group Maximum Duration :	45
Group Minimum Duration :	45
Show Attended Group? :	No
Edit Attended Group? :	No
Break time :	0
Group Marks :	200
Is this Group for Examiner? :	No
Examiner permission :	Cant View
Show Progress Bar? :	No

Urdu

Section Id :	212807886
Section Number :	1
Section type :	Online
Mandatory or Optional :	Mandatory
Number of Questions :	50
Number of Questions to be attempted :	40
Section Marks :	200
Enable Mark as Answered Mark for Review and Clear Response :	Yes
Maximum Instruction Time :	0
Sub-Section Number :	1
Sub-Section Id :	2128072553

Question Shuffling Allowed :	No
Is Section Default? :	null
Sub-Section Number :	2
Sub-Section Id :	2128072554
Question Shuffling Allowed :	Yes
Is Section Default? :	null
Sub-Section Number :	3
Sub-Section Id :	2128072555
Question Shuffling Allowed :	No
Is Section Default? :	null
Sub-Section Number :	4
Sub-Section Id :	2128072556
Question Shuffling Allowed :	No
Is Section Default? :	null
Sub-Section Number :	5
Sub-Section Id :	2128072557
Question Shuffling Allowed :	Yes
Is Section Default? :	null