

National Testing Agency

Question Paper Name : 02S3
Subject Name : 02Jul2023 Shift3 Subject Combination 1
Creation Date : 2023-07-02 21:07:43
Duration : 1230
Total Marks : 5050
Display Marks: Yes

English

Group Number : 1
Group Id : 485584882
Group Maximum Duration : 45
Group Minimum Duration : 45
Show Attended Group? : No
Edit Attended Group? : No
Break time : 0
Group Marks : 200
Is this Group for Examiner? : No
Examiner permission : Cant View
Show Progress Bar? : No

English

Section Id : 4855841022
Section Number : 1
Section type : Online
Mandatory or Optional : Mandatory
Number of Questions : 50
Number of Questions to be attempted : 40
Section Marks : 200
Enable Mark as Answered Mark for Review and Clear Response : Yes
Maximum Instruction Time : 0
Sub-Section Number : 1
Sub-Section Id : 4855842888
Question Shuffling Allowed : No
Is Section Default? : null

Question Number : 1 Question Id : 48558438201 Question Type : MCQ Option Shuffling : No Is Question Mandatory : No Calculator : None Response Time : N.A Think Time : N.A Minimum Instruction Time : 0

Correct Marks : 5 Wrong Marks : 1

Question Key Details :

Key	Value
Comprehension	Comp1

Read the following poem. Answer the question that follow:

At the Museum

But is 2500 B. C. Harappa,
who cast in bronze a servant girl?
No one keeps records
of soldiers and slaves.
The sculptor knew this,
polishing the ache
off her fingers stiff
from washing the walls
and scrubbing the floors,
from stirring the meat
and the crushed asafoetida
in the bitter gourd.
But I'm grateful she smiled
at the sculptor,
as she smiles at me
in bronze,
a child who had to play women
to her lord
when the warm June rains
came to Harappa.

What is the poem 'At the Museum' about?

1. About a sculptor who fell in love with a dancer.
2. The powerful experience of encountering another person through art
3. About record keeping at a government office
4. Its about a child who preferred household work to playing

Options :

- 485584152801. 1
- 485584152802. 2
- 485584152803. 3
- 485584152804. 4

Question Number : 2 Question Id : 48558438202 Question Type : MCQ Option Shuffling : No Is Question Mandatory : No Calculator : None
Response Time : N.A Think Time : N.A Minimum Instruction Time : 0

Correct Marks : 5 Wrong Marks : 1

Question Key Details :

Key	Value
Comprehension	Comp1

Read the following poem. Answer the question that follow:

At the Museum

But is 2500 B. C. Harappa,
who cast in bronze a servant girl?
No one keeps records
of soldiers and slaves.
The sculptor knew this,
polishing the ache
off her fingers stiff
from washing the walls
and scrubbing the floors,
from stirring the meat
and the crushed asafoetida
in the bitter gourd.
But I'm grateful she smiled
at the sculptor,
as she smiles at me
in bronze,
a child who had to play women
to her lord
when the warm June rains
came to Harappa.

What were the kinds of work the servant girl had to do during her time? Choose the incorrect option.

1. Stirring the meat and the crushed asafoetida in the bitter gourd
2. sowing grains in the soil
3. Washing the walls
4. scrubbing the floors

Options :

- 485584152805. 1
- 485584152806. 2
- 485584152807. 3
- 485584152808. 4

Question Number : 3 Question Id : 48558438203 Question Type : MCQ Option Shuffling : No Is Question Mandatory : No Calculator : None
Response Time : N.A Think Time : N.A Minimum Instruction Time : 0

Correct Marks : 5 Wrong Marks : 1

Question Key Details :

Key	Value
Comprehension	Comp1

Read the following poem. Answer the question that follow:

At the Museum

But is 2500 B. C. Harappa,
who cast in bronze a servant girl?
No one keeps records
of soldiers and slaves.
The sculptor knew this,
polishing the ache
off her fingers stiff
from washing the walls
and scrubbing the floors,
from stirring the meat
and the crushed asafoetida
in the bitter gourd.
But I'm grateful she smiled
at the sculptor,
as she smiles at me
in bronze,
a child who had to play women
to her lord
when the warm June rains
came to Harappa.

What does the poet suggest when they say that the records of soldiers and slaves are not kept?

- A. They do not play a significant role in history
- B. Their sculptures are destroyed
- C. Common people are not worthy of being part of history
- D. History is about Kings and Queens

Choose the most appropriate answer from the options given below:

- 1. A only
- 2. B only
- 3. A and D only
- 4. C and D only

Options :

- 485584152809. 1
- 485584152810. 2
- 485584152811. 3
- 485584152812. 4

Question Number : 4 Question Id : 48558438204 Question Type : MCQ Option Shuffling : No Is Question Mandatory : No Calculator : None
Response Time : N.A Think Time : N.A Minimum Instruction Time : 0
Correct Marks : 5 Wrong Marks : 1

Question Key Details :

Key	Value
Comprehension	Comp1

Read the following poem. Answer the question that follow:

At the Museum

But is 2500 B. C. Harappa,
who cast in bronze a servant girl?
No one keeps records
of soldiers and slaves.
The sculptor knew this,
polishing the ache
off her fingers stiff
from washing the walls
and scrubbing the floors,
from stirring the meat
and the crushed asafoetida
in the bitter gourd.
But I'm grateful she smiled
at the sculptor,
as she smiles at me
in bronze,
a child who had to play women
to her lord
when the warm June rains
came to Harappa.

What did the sculptor preserve in casting in bronze the servant girl in 2500 B.C. Harappa?

1. Memory of a supposedly unimportant person
2. A civilization
3. Some records of soldiers
4. Bitter gourd stirred with meat and crushed asafoetida

Options :

- 485584152813. 1
- 485584152814. 2
- 485584152815. 3
- 485584152816. 4

Question Number : 5 Question Id : 48558438205 Question Type : MCQ Option Shuffling : No Is Question Mandatory : No Calculator : None Response Time : N.A Think Time : N.A Minimum Instruction Time : 0

Correct Marks : 5 Wrong Marks : 1

Question Key Details :

Key	Value
Comprehension	Comp1

Read the following poem. Answer the question that follow:

At the Museum

But is 2500 B. C. Harappa,
who cast in bronze a servant girl?
No one keeps records
of soldiers and slaves.
The sculptor knew this,
polishing the ache
off her fingers stiff
from washing the walls
and scrubbing the floors,
from stirring the meat
and the crushed asafoetida
in the bitter gourd.
But I'm grateful she smiled
at the sculptor,
as she smiles at me
in bronze,
a child who had to play women
to her lord
when the warm June rains
came to Harappa.

What is the poet grateful about according to the poem?

1. The poet is grateful that the servant girl was cast in bronze
2. The poet is grateful for having encountered a relic from the past
3. The poet is grateful that the servant girl smiled at the sculptor while he was casting her
4. The poet is grateful that the sculptor polished the ache off the servant girl's fingers

Options :

- 485584152817. 1
- 485584152818. 2
- 485584152819. 3
- 485584152820. 4

Sub-Section Number : 2
Sub-Section Id : 4855842889
Question Shuffling Allowed : No
Is Section Default? : null

Question Number : 6 **Question Id :** 48558438206 **Question Type :** MCQ **Option Shuffling :** No **Is Question Mandatory :** No **Calculator :** None
Response Time : N.A **Think Time :** N.A **Minimum Instruction Time :** 0

Correct Marks : 5 **Wrong Marks :** 1

Question Key Details :

Key	Value
Comprehension	Comp2

"Arjun, I have brought your favourite thing. It is kept inside the refrigerator." My mother brought the earthen pot out and held it before me. I counted and looked for the biggest one from the shining, rotund figures of India's most desired sweet item. "Don't eat it in one go. Here take one. Why don't you bite it and eat slowly? Why do you gulp everything down without chewing?"

I avoided sleeping during the day and sneaked out of my mother's room. As I saw everyone is asleep, my mind turned into the devil's workshop in search of the prized item. I ran to the kitchen and pulled at the door of the refrigerator. I ran my hand over the eatables, mindlessly changing their places and dashed the door carelessly when I could not find the soft and syrupy sponges. I left, accidentally making a mess and leaving the water tap open.

In the evening, when my misdeeds were discovered, a visibly livid father dragged me to the center of our drawing room. To escape the beating, I feigned weeping. Hearing my sobs, my grandparents would invariably snatch me out of my father's hands. I broke free from their arms and threw my body on the bed with a thud. I did not listen to anyone's voice and pretended to be asleep.

Hands tugged me at dinner time. I refused to listen to the request of taking food. Then my parents and grandparents would coax me with various offers. My grandfather hugged me and asked, "Arjun, what will make you feel better?"

"Rasgulla! Give me at least ten."

Why was Arjun on the verge of receiving a beating?

1. Because he refused to listen
2. Because he made a mess in the kitchen
3. Because he gulped down food without chewing
4. Because he sneaked out of his mother's room

Options :

- 485584152821. 1
- 485584152822. 2
- 485584152823. 3
- 485584152824. 4

Question Number : 7 Question Id : 48558438207 Question Type : MCQ Option Shuffling : No Is Question Mandatory : No Calculator : None Response Time : N.A Think Time : N.A Minimum Instruction Time : 0

Correct Marks : 5 Wrong Marks : 1

Question Key Details :

Key	Value
Comprehension	Comp2

"Arjun, I have brought your favourite thing. It is kept inside the refrigerator." My mother brought the earthen pot out and held it before me. I counted and looked for the biggest one from the shining, rotund figures of India's most desired sweet item. "Don't eat it in one go. Here take one. Why don't you bite it and eat slowly? Why do you gulp everything down without chewing?"

I avoided sleeping during the day and sneaked out of my mother's room. As I saw everyone is asleep, my mind turned into the devil's workshop in search of the prized item. I ran to the kitchen and pulled at the door of the refrigerator. I ran my hand over the eatables, mindlessly changing their places and dashed the door carelessly when I could not find the soft and syrupy sponges. I left, accidentally making a mess and leaving the water tap open.

In the evening, when my misdeeds were discovered, a visibly livid father dragged me to the center of our drawing room. To escape the beating, I feigned weeping. Hearing my sobs, my grandparents would invariably snatch me out of my father's hands. I broke free from their arms and threw my body on the bed with a thud. I did not listen to anyone's voice and pretended to be asleep.

Hands tugged me at dinner time. I refused to listen to the request of taking food. Then my parents and grandparents would coax me with various offers. My grandfather hugged me and asked, "Arjun, what will make you feel better?"

"Rasgulla! Give me at least ten."

Why did Arjun's grandparents snatch him?

1. Because he was sleeping a lot
2. Because he was not eating anything
3. To scold him for making a mess
4. To save him from a beating

Options :

- 485584152825. 1
- 485584152826. 2
- 485584152827. 3
- 485584152828. 4

Question Number : 8 Question Id : 48558438208 Question Type : MCQ Option Shuffling : No Is Question Mandatory : No Calculator : None Response Time : N.A Think Time : N.A Minimum Instruction Time : 0

Correct Marks : 5 Wrong Marks : 1

Question Key Details :

Key	Value
Comprehension	Comp2

"Arjun, I have brought your favourite thing. It is kept inside the refrigerator." My mother brought the earthen pot out and held it before me. I counted and looked for the biggest one from the shining, rotund figures of India's most desired sweet item. "Don't eat it in one go. Here take one. Why don't you bite it and eat slowly? Why do you gulp everything down without chewing?"

I avoided sleeping during the day and sneaked out of my mother's room. As I saw everyone is asleep, my mind turned into the devil's workshop in search of the prized item. I ran to the kitchen and pulled at the door of the refrigerator. I ran my hand over the eatables, mindlessly changing their places and dashed the door carelessly when I could not find the soft and syrupy sponges. I left, accidentally making a mess and leaving the water tap open.

In the evening, when my misdeeds were discovered, a visibly livid father dragged me to the center of our drawing room. To escape the beating, I feigned weeping. Hearing my sobs, my grandparents would invariably snatch me out of my father's hands. I broke free from their arms and threw my body on the bed with a thud. I did not listen to anyone's voice and pretended to be asleep.

Hands tugged me at dinner time. I refused to listen to the request of taking food. Then my parents and grandparents would coax me with various offers. My grandfather hugged me and asked, "Arjun, what will make you feel better?"

"Rasgulla! Give me at least ten."

Arrange the following activities performed by Arjun in a chronological sequence:

- A. Asking for Rasgulla
- B. Searching for Rasgulla
- C. Falling on his bed
- D. Sneaking out of his mother's room
- E. Eating the Rasgulla

Choose the correct answer from the options given below:

- 1. B, A, E, D, C
- 2. C, D, B, A, E
- 3. E, D, B, C, A
- 4. A, B, C, D, E

Options :

- 485584152829. 1
- 485584152830. 2
- 485584152831. 3
- 485584152832. 4

Question Number : 9 Question Id : 48558438209 Question Type : MCQ Option Shuffling : No Is Question Mandatory : No Calculator : None Response Time : N.A Think Time : N.A Minimum Instruction Time : 0

Correct Marks : 5 Wrong Marks : 1

Question Key Details :

Key	Value
Comprehension	Comp2

"Arjun, I have brought your favourite thing. It is kept inside the refrigerator." My mother brought the earthen pot out and held it before me. I counted and looked for the biggest one from the shining, rotund figures of India's most desired sweet item. "Don't eat it in one go. Here take one. Why don't you bite it and eat slowly? Why do you gulp everything down without chewing?"

I avoided sleeping during the day and sneaked out of my mother's room. As I saw everyone is asleep, my mind turned into the devil's workshop in search of the prized item. I ran to the kitchen and pulled at the door of the refrigerator. I ran my hand over the eatables, mindlessly changing their places and dashed the door carelessly when I could not find the soft and syrupy sponges. I left, accidentally making a mess and leaving the water tap open.

In the evening, when my misdeeds were discovered, a visibly livid father dragged me to the center of our drawing room. To escape the beating, I feigned weeping. Hearing my sobs, my grandparents would invariably snatch me out of my father's hands. I broke free from their arms and threw my body on the bed with a thud. I did not listen to anyone's voice and pretended to be asleep.

Hands tugged me at dinner time. I refused to listen to the request of taking food. Then my parents and grandparents would coax me with various offers. My grandfather hugged me and asked, "Arjun, what will make you feel better?"

"Rasgulla! Give me at least ten."

Which of the following are used to describe the Rasgullas?

- A. Shining figures
- B. Eatables
- C. Devil's workshop
- D. Soft and syrupy sponges
- E. Prized items

Choose the correct answer from the options given below:

- 1. A, D and E only
- 2. B and E only
- 3. A, C and D only
- 4. B and C only

Options :

485584152833. 1

485584152834. 2

485584152835. 3

485584152836. 4

Question Number : 10 Question Id : 48558438210 Question Type : MCQ Option Shuffling : No Is Question Mandatory : No Calculator : None Response Time : N.A Think Time : N.A Minimum Instruction Time : 0

Correct Marks : 5 Wrong Marks : 1

Question Key Details :

Key	Value
Comprehension	Comp2

"Arjun, I have brought your favourite thing. It is kept inside the refrigerator." My mother brought the earthen pot out and held it before me. I counted and looked for the biggest one from the shining, rotund figures of India's most desired sweet item. "Don't eat it in one go. Here take one. Why don't you bite it and eat slowly? Why do you gulp everything down without chewing?"

I avoided sleeping during the day and sneaked out of my mother's room. As I saw everyone is asleep, my mind turned into the devil's workshop in search of the prized item. I ran to the kitchen and pulled at the door of the refrigerator. I ran my hand over the eatables, mindlessly changing their places and dashed the door carelessly when I could not find the soft and syrupy sponges. I left, accidentally making a mess and leaving the water tap open.

In the evening, when my misdeeds were discovered, a visibly livid father dragged me to the center of our drawing room. To escape the beating, I feigned weeping. Hearing my sobs, my grandparents would invariably snatch me out of my father's hands. I broke free from their arms and threw my body on the bed with a thud. I did not listen to anyone's voice and pretended to be asleep.

Hands tugged me at dinner time. I refused to listen to the request of taking food. Then my parents and grandparents would coax me with various offers. My grandfather hugged me and asked, "Arjun, what will make you feel better?"

"Rasgulla! Give me at least ten."

Match the words in List I with their appropriate meaning in List II:

LIST I		LIST II	
A.	Livid	I.	Pretend
B.	Feigned	II.	Persuade
C.	Dashed	III.	Furious
D.	Coax	IV.	Run

Choose the correct answer from the options given below:

1. A-I, B-III, C-II, D-IV
2. A-III, B-I, C-IV, D-II
3. A-II, B-IV, C-I, D-III
4. A-IV, B-II, C-III, D-I

Options :

485584152837. 1
 485584152838. 2
 485584152839. 3
 485584152840. 4

Sub-Section Number : 3
Sub-Section Id : 4855842890
Question Shuffling Allowed : No
Is Section Default? : null

Question Number : 11 **Question Id :** 48558438211 **Question Type :** MCQ **Option Shuffling :** No **Is Question Mandatory :** No **Calculator :** None
Response Time : N.A **Think Time :** N.A **Minimum Instruction Time :** 0

Correct Marks : 5 **Wrong Marks :** 1

Question Key Details :

Key	Value
Comprehension	Comp3

No species lasts forever. Our species has been in existence for at least 200,000 years and is not old in evolutionary terms. Consequently, we should persist for hundreds of thousands of years yet there are no indications that *Homo sapiens* is in decline. However, whether we have the capacity for total destruction—though nuclear annihilation or such—remains debated. Some experts argue that humans are so numerous, widespread and suited to survive catastrophe that no event would result in extinction. A collapse of global ecosystems resulting from climate change and overpopulation has also been predicted as a cause for our extinction but, again, it is difficult to accept that such events could cause human die-off everywhere. Ultimately, it is impossible to predict what might happen in coming centuries. But, more so than any other species, humanity is able to control its evolution via the use of technology, genetic modification and the control of resources these factors make it likely that we will persist for longer than has been typical for mammal species before us.

Which of the following sentences are factually incorrect as per the passage?

- A. Our species is 200,000 years old
- B. Our species is not old in evolutionary terms
- C. Our species is in decline
- D. Our species can become extinct due to overpopulation
- E. Our species is unable to control its evolution

Choose the most appropriate answer from the options given below

- 1. A, B and C only
- 2. B and D only
- 3. A, D and E only
- 4. C and E only

Options :

- 485584152841. 1
- 485584152842. 2
- 485584152843. 3
- 485584152844. 4

Question Number : 12 Question Id : 48558438212 Question Type : MCQ Option Shuffling : No Is Question Mandatory : No Calculator : None Response Time : N.A Think Time : N.A Minimum Instruction Time : 0

Correct Marks : 5 Wrong Marks : 1

Question Key Details :

Key	Value
Comprehension	Comp3

No species lasts forever. Our species has been in existence for at least 200,000 years and is not old in evolutionary terms. Consequently, we should persist for hundreds of thousands of years yet there are no indications that *Homo sapiens* is in decline. However, whether we have the capacity for total destruction—though nuclear annihilation or such—remains debated. Some experts argue that humans are so numerous, widespread and suited to survive catastrophe that no event would result in extinction. A collapse of global ecosystems resulting from climate change and overpopulation has also been predicted as a cause for our extinction but, again, it is difficult to accept that such events could cause human die-off everywhere. Ultimately, it is impossible to predict what might happen in coming centuries. But, more so than any other species, humanity is able to control its evolution via the use of technology, genetic modification and the control of resources these factors make it likely that we will persist for longer than has been typical for mammal species before us.

Choose the correct word based on your understanding of the Comprehension:

He is unable to _____ the outcome of next week's match.

1. Persist
2. Predict
3. Accept
4. Exist

Options :

- 485584152845. 1
- 485584152846. 2
- 485584152847. 3
- 485584152848. 4

Question Number : 13 Question Id : 48558438213 Question Type : MCQ Option Shuffling : No Is Question Mandatory : No Calculator : None Response Time : N.A Think Time : N.A Minimum Instruction Time : 0

Correct Marks : 5 Wrong Marks : 1

Question Key Details :

Key	Value
Comprehension	Comp3

No species lasts forever. Our species has been in existence for at least 200,000 years and is not old in evolutionary terms. Consequently, we should persist for hundreds of thousands of years yet there are no indications that *Homo sapiens* is in decline. However, whether we have the capacity for total destruction—though nuclear annihilation or such—remains debated. Some experts argue that humans are so numerous, widespread and suited to survive catastrophe that no event would result in extinction. A collapse of global ecosystems resulting from climate change and overpopulation has also been predicted as a cause for our extinction but, again, it is difficult to accept that such events could cause human die-off everywhere. Ultimately, it is impossible to predict what might happen in coming centuries. But, more so than any other species, humanity is able to control its evolution via the use of technology, genetic modification and the control of resources these factors make it likely that we will persist for longer than has been typical for mammal species before us.

From the given options, choose the correct Antonym for 'Extinct':

1. Existence
2. Extant
3. Alive
4. Expound

Options :

- 485584152849. 1
- 485584152850. 2
- 485584152851. 3
- 485584152852. 4

Question Number : 14 Question Id : 48558438214 Question Type : MCQ Option Shuffling : No Is Question Mandatory : No Calculator : None Response Time : N.A Think Time : N.A Minimum Instruction Time : 0

Correct Marks : 5 Wrong Marks : 1

Question Key Details :

Key	Value
Comprehension	Comp3

No species lasts forever. Our species has been in existence for at least 200,000 years and is not old in evolutionary terms. Consequently, we should persist for hundreds of thousands of years yet there are no indications that *Homo sapiens* is in decline. However, whether we have the capacity for total destruction—though nuclear annihilation or such—remains debated. Some experts argue that humans are so numerous, widespread and suited to survive catastrophe that no event would result in extinction. A collapse of global ecosystems resulting from climate change and overpopulation has also been predicted as a cause for our extinction but, again, it is difficult to accept that such events could cause human die-off everywhere. Ultimately, it is impossible to predict what might happen in coming centuries. But, more so than any other species, humanity is able to control its evolution via the use of technology, genetic modification and the control of resources these factors make it likely that we will persist for longer than has been typical for mammal species before us.

Why would global ecosystems collapse?

1. Use of technology and genetic modification
2. Nuclear Annihilation
3. Climate change and overpopulation
4. Because of human die-off everywhere

Options :

- 485584152853. 1
- 485584152854. 2
- 485584152855. 3
- 485584152856. 4

Question Number : 15 Question Id : 48558438215 Question Type : MCQ Option Shuffling : No Is Question Mandatory : No Calculator : None Response Time : N.A Think Time : N.A Minimum Instruction Time : 0

Correct Marks : 5 Wrong Marks : 1

Question Key Details :

Key	Value
Comprehension	Comp3

No species lasts forever. Our species has been in existence for at least 200,000 years and is not old in evolutionary terms. Consequently, we should persist for hundreds of thousands of years yet there are no indications that *Homo sapiens* is in decline. However, whether we have the capacity for total destruction—though nuclear annihilation or such—remains debated. Some experts argue that humans are so numerous, widespread and suited to survive catastrophe that no event would result in extinction. A collapse of global ecosystems resulting from climate change and overpopulation has also been predicted as a cause for our extinction but, again, it is difficult to accept that such events could cause human die-off everywhere. Ultimately, it is impossible to predict what might happen in coming centuries. But, more so than any other species, humanity is able to control its evolution via the use of technology, genetic modification and the control of resources these factors make it likely that we will persist for longer than has been typical for mammal species before us.

Which of the following factors help humanity control its evolution, as per the passage?

- A. Predicting what might happen in the future
- B. Use of technology
- C. Persisting for longer than most mammal species
- D. Control of resources
- E. Genetic modification

Choose the most appropriate answer from the options given below:

- 1. B, D, E only
- 2. A, B, C only
- 3. A, C, E only
- 4. D and E only

Options :

- 485584152857. 1
- 485584152858. 2
- 485584152859. 3
- 485584152860. 4

Sub-Section Number : 4
Sub-Section Id : 4855842891
Question Shuffling Allowed : Yes
Is Section Default? : null

Question Number : 16 Question Id : 48558438216 Question Type : MCQ Option Shuffling : No Is Question Mandatory : No Calculator : None Response Time : N.A Think Time : N.A Minimum Instruction Time : 0

Correct Marks : 5 Wrong Marks : 1

Question Key Details :

Key	Value
Comprehension	MCQ

Choose the most appropriate option to convert the following sentence in Active Voice into Passive Voice:

The labourers were digging a canal.

- 1. A canal is being dug by the labourers.
- 2. A canal was being dug by the labourers.
- 3. A canal was dug by the labourers.
- 4. A canal had been dug by the labourers.

Options :

- 485584152861. 1
- 485584152862. 2
- 485584152863. 3
- 485584152864. 4

Question Number : 17 Question Id : 48558438217 Question Type : MCQ Option Shuffling : No Is Question Mandatory : No Calculator : None Response Time : N.A Think Time : N.A Minimum Instruction Time : 0

Correct Marks : 5 Wrong Marks : 1

Question Key Details :

Key	Value
Comprehension	MCQ

Choose the most appropriate option to convert the following sentence in Passive Voice to Active Voice:

Did anyone invite Rachna to the party?

1. Is Rachna invited to the party?
2. Had Rachana been invited to the party by anyone?
3. Was Rachana invited to the party?
4. Was Rachana going to be invited to the party?

Options :

- 485584152865. 1
- 485584152866. 2
- 485584152867. 3
- 485584152868. 4

Question Number : 18 Question Id : 48558438218 Question Type : MCQ Option Shuffling : No Is Question Mandatory : No Calculator : None Response Time : N.A Think Time : N.A Minimum Instruction Time : 0

Correct Marks : 5 Wrong Marks : 1

Question Key Details :

Key	Value
Comprehension	MCQ

Identify the correct conversion of the following sentence in Direct Speech into Indirect Speech:

She said to me, 'What are you doing?'

1. She said to me what I was doing.
2. She asked me what was I to do.
3. She asked me what I was doing.
4. She told me what I was doing.

Options :

- 485584152869. 1
- 485584152870. 2
- 485584152871. 3
- 485584152872. 4

Question Number : 19 Question Id : 48558438219 Question Type : MCQ Option Shuffling : No Is Question Mandatory : No Calculator : None Response Time : N.A Think Time : N.A Minimum Instruction Time : 0

Correct Marks : 5 Wrong Marks : 1

Question Key Details :

Key	Value
Comprehension	MCQ

Identify the correct conversion of the following sentence in Indirect Speech into Direct Speech:

He requested him to wait there till he returned.

1. He requested to him, 'Please wait there till I return.'
2. He said to him 'Please wait here till I return.'
3. He requested to him, 'Please wait till I return.'
4. He said to him, 'Please wait there till I return.'

Options :

485584152873. 1
485584152874. 2
485584152875. 3
485584152876. 4

Question Number : 20 Question Id : 48558438220 Question Type : MCQ Option Shuffling : No Is Question Mandatory : No Calculator : None Response Time : N.A Think Time : N.A Minimum Instruction Time : 0

Correct Marks : 5 Wrong Marks : 1

Question Key Details :

Key	Value
Comprehension	MCQ

Rearrange the following sentences to make a meaningful paragraph:

- A. But there is one aspect of the James Web Space Telescope (TWIST) that is very limiting.
- B. To counter this limitations we can create Sky-survey telescope.
- C. It is designed to capture high-resolution images of small areas of the sky.
- D. The Vera Rubin observatory is being constructed specifically for this purpose.
- E. This is true for most telescope since it is difficult to create an image which is both wide and detailed.

- 1. B, A, C, D, E
- 2. C, A, B, D, E
- 3. A, C, E, B, D
- 4. D, C, B, A, E

Options :

485584152877. 1
485584152878. 2
485584152879. 3
485584152880. 4

Question Number : 21 Question Id : 48558438221 Question Type : MCQ Option Shuffling : No Is Question Mandatory : No Calculator : None Response Time : N.A Think Time : N.A Minimum Instruction Time : 0

Correct Marks : 5 Wrong Marks : 1

Question Key Details :

Key	Value
Comprehension	MCQ

Rearrange the following sentences to form a paragraph:

- A. But there is no denying that the discovery of geological time helped people come to terms with the idea that living things have had plenty of time to change.
- B. The key evidence for evolution comes from living organisms.
- C. British scientist began to consider geological time during the 18th century.
- D. Even if fossils and rocks did not exist we would still conclude that evolution occurs.

- 1. C, A, D, B
- 2. D, B, A, C
- 3. B, D, A, C
- 4. B, D, C, A

Options :

485584152881. 1
485584152882. 2
485584152883. 3
485584152884. 4

Question Number : 22 Question Id : 48558438222 Question Type : MCQ Option Shuffling : No Is Question Mandatory : No Calculator : None Response Time : N.A Think Time : N.A Minimum Instruction Time : 0

Correct Marks : 5 Wrong Marks : 1

Question Key Details :

Key	Value
Comprehension	MCQ

Match the foreign phrases given in List I with their meanings in List II

LIST I		LIST II	
A.	beau monde	I.	fashionable society
B.	amour propre	II.	defining mood or characteristic of an age or a period
C.	dolce vita	III.	self love
D.	zeitgeist	IV.	a life of pleasure and hurry

Choose the correct answer from the options given below:

1. A-II, B-IV, C-I, D-III
2. A-IV, B-III, C-II, D-I
3. A-I, B-III, C-IV, D-II
4. A-I, B-IV, C-III, D-II

Options :

485584152885. 1
485584152886. 2
485584152887. 3
485584152888. 4

Question Number : 23 Question Id : 48558438223 Question Type : MCQ Option Shuffling : No Is Question Mandatory : No Calculator : None Response Time : N.A Think Time : N.A Minimum Instruction Time : 0

Correct Marks : 5 Wrong Marks : 1

Question Key Details :

Key	Value
Comprehension	MCQ

Choose the most appropriate meaning of the following foreign phrase:

"SANG FROID"

1. cold song
2. cool look
3. fried sandwich
4. frozen fruit

Options :

485584152889. 1
485584152890. 2
485584152891. 3
485584152892. 4

Question Number : 24 Question Id : 48558438224 Question Type : MCQ Option Shuffling : No Is Question Mandatory : No Calculator : None Response Time : N.A Think Time : N.A Minimum Instruction Time : 0

Correct Marks : 5 Wrong Marks : 1

Question Key Details :

Key	Value
Comprehension	MCQ

Match the words in List I with their appropriate meanings in List II:

LIST I		LIST II	
A.	Fuddled	I.	Defraud
B.	Imposter	II.	Domineering
C.	Portend	III.	Stupefied
D.	Imperious	IV.	Predict

Choose the correct answer from the options given below:

1. A-IV, B-III, C-I, D-II
2. A-I, B-IV, C-II, D-III
3. A-II, B-III, C-IV, D-I
4. A-III, B-I, C-IV, D-II

Options :

485584152893. 1
 485584152894. 2
 485584152895. 3
 485584152896. 4

Question Number : 25 Question Id : 48558438225 Question Type : MCQ Option Shuffling : No Is Question Mandatory : No Calculator : None Response Time : N.A Think Time : N.A Minimum Instruction Time : 0

Correct Marks : 5 Wrong Marks : 1

Question Key Details :

Key	Value
Comprehension	MCQ

Match the words in List I with their appropriate meanings in List II:

LIST I		LIST II	
A.	Grapple	I.	Premature
B.	Intrepid	II.	Disjunction
C.	Precocious	III.	Struggle
D.	Schism	IV.	Brave

Choose the correct answer from the options given below:

1. A-III, B-IV, C-I, D-II
2. A-I, B-II, C-IV, D-III
3. A-I, B-IV, C-III, D-II
4. A-IV, B-I, C-III, D-II

Options :

485584152897. 1
 485584152898. 2
 485584152899. 3
 485584152900. 4

Question Number : 26 Question Id : 48558438226 Question Type : MCQ Option Shuffling : No Is Question Mandatory : No Calculator : None Response Time : N.A Think Time : N.A Minimum Instruction Time : 0

Correct Marks : 5 Wrong Marks : 1

Question Key Details :

Key	Value
-----	-------

Match the sentences in List I with their suitable Articles in List II:

LIST I		LIST II	
A.	He is _____ best doctor in town.	I.	a
B.	It is _____ university in Delhi.	II.	an
C.	This is _____ bad.	III.	the
D.	I came here _____ hour ago.	IV.	No article

Choose the correct answer from the options given below:

1. A-III, B-I, C-IV, D-II
2. A-II, B-IV, C-I, D-III
3. A-I, B-III, C-II, D-IV
4. A-IV, B-II, C-III, D-I

Options :

485584152901. 1
 485584152902. 2
 485584152903. 3
 485584152904. 4

Question Number : 27 Question Id : 48558438227 Question Type : MCQ Option Shuffling : No Is Question Mandatory : No Calculator : None Response Time : N.A Think Time : N.A Minimum Instruction Time : 0

Correct Marks : 5 Wrong Marks : 1

Question Key Details :

Key	Value
Comprehension	MCQ

Fill in the blanks with appropriate Articles:

It was _____ honour to meet _____ professor

1. an, the
2. a, a
3. a, the
4. an, a

Options :

485584152905. 1
 485584152906. 2
 485584152907. 3
 485584152908. 4

Question Number : 28 Question Id : 48558438228 Question Type : MCQ Option Shuffling : No Is Question Mandatory : No Calculator : None Response Time : N.A Think Time : N.A Minimum Instruction Time : 0

Correct Marks : 5 Wrong Marks : 1

Question Key Details :

Key	Value
Comprehension	MCQ

Change the following sentence from Assertive to Exclamatory:

The chocolates are very bitter.

1. Such bitterness is in these chocolates!
2. How bitter these chocolates are!
3. What bitter are these chocolates!
4. Very bitter are these chocolates!

Options :

- 485584152909. 1
- 485584152910. 2
- 485584152911. 3
- 485584152912. 4

Question Number : 29 Question Id : 48558438229 Question Type : MCQ Option Shuffling : No Is Question Mandatory : No Calculator : None Response Time : N.A Think Time : N.A Minimum Instruction Time : 0

Correct Marks : 5 Wrong Marks : 1

Question Key Details :

Key	Value
Comprehension	MCQ

Change the following sentence from Assertive to Exclamatory:

It has been a difficult year.

1. What difficulty has this year been!
2. A difficult year indeed has it been!
3. How difficult of a year it has been!
4. What a difficult year it has been!

Options :

- 485584152913. 1
- 485584152914. 2
- 485584152915. 3
- 485584152916. 4

Question Number : 30 Question Id : 48558438230 Question Type : MCQ Option Shuffling : No Is Question Mandatory : No Calculator : None Response Time : N.A Think Time : N.A Minimum Instruction Time : 0

Correct Marks : 5 Wrong Marks : 1

Question Key Details :

Key	Value
Comprehension	MCQ

Fill in the blank with an appropriate Preposition:

The Soldiers are ____ war.

1. at
2. on
3. in
4. with

Options :

485584152917. 1
485584152918. 2
485584152919. 3
485584152920. 4

Question Number : 31 Question Id : 48558438231 Question Type : MCQ Option Shuffling : No Is Question Mandatory : No Calculator : None Response Time : N.A Think Time : N.A Minimum Instruction Time : 0

Correct Marks : 5 Wrong Marks : 1

Question Key Details :

Key	Value
Comprehension	MCQ

Fill in the blank with an appropriate Preposition:

I prefer buttermilk _____ lassi.

1. over
2. to
3. in
4. on

Options :

485584152921. 1
485584152922. 2
485584152923. 3
485584152924. 4

Question Number : 32 Question Id : 48558438232 Question Type : MCQ Option Shuffling : No Is Question Mandatory : No Calculator : None Response Time : N.A Think Time : N.A Minimum Instruction Time : 0

Correct Marks : 5 Wrong Marks : 1

Question Key Details :

Key	Value
Comprehension	MCQ

Fill in the blank with an appropriate Modal:

_____ I ask you a question?

1. shall
2. will
3. can
4. might

Options :

485584152925. 1
485584152926. 2
485584152927. 3
485584152928. 4

Question Number : 33 Question Id : 48558438233 Question Type : MCQ Option Shuffling : No Is Question Mandatory : No Calculator : None Response Time : N.A Think Time : N.A Minimum Instruction Time : 0

Correct Marks : 5 Wrong Marks : 1

Question Key Details :

Key	Value
Comprehension	MCQ

Fill in the blank with an appropriate Modal:

_____ you like a cup of tea?

1. would
2. shall
3. could
4. may

Options :

- 485584152929. 1
- 485584152930. 2
- 485584152931. 3
- 485584152932. 4

Question Number : 34 Question Id : 48558438234 Question Type : MCQ Option Shuffling : No Is Question Mandatory : No Calculator : None Response Time : N.A Think Time : N.A Minimum Instruction Time : 0

Correct Marks : 5 Wrong Marks : 1

Question Key Details :

Key	Value
Comprehension	MCQ

Which of the following is not included in a formal letter?

1. Subject
2. Salutation
3. With lots of love
4. Date

Options :

- 485584152933. 1
- 485584152934. 2
- 485584152935. 3
- 485584152936. 4

Question Number : 35 Question Id : 48558438235 Question Type : MCQ Option Shuffling : No Is Question Mandatory : No Calculator : None Response Time : N.A Think Time : N.A Minimum Instruction Time : 0

Correct Marks : 5 Wrong Marks : 1

Question Key Details :

Key	Value
Comprehension	MCQ

Which of the following is not an appropriate subscription for a formal letter?

1. yours sincerely
2. yours lovingly
3. yours faithfully
4. yours truly

Options :

- 485584152937. 1
- 485584152938. 2
- 485584152939. 3
- 485584152940. 4

Question Number : 36 Question Id : 48558438236 Question Type : MCQ Option Shuffling : No Is Question Mandatory : No Calculator : None Response Time : N.A Think Time : N.A Minimum Instruction Time : 0

Correct Marks : 5 Wrong Marks : 1

Question Key Details :

Key	Value
Comprehension	MCQ

Select the incorrect sentences from the following options:

- A. The roof collapsed that very moment.
- B. This is more than flesh and blood can endure.
- C. He puts on an air of dignity.
- D. The tailor's bill has hurried up to a large amount.
- E. They were very grateful to him for kindness.

Choose the most appropriate answer from the options given below:

- 1. A, E only
- 2. A, D, E only
- 3. A, B, D, E only
- 4. C, D, E only

Options :

- 485584152941. 1
- 485584152942. 2
- 485584152943. 3
- 485584152944. 4

Question Number : 37 Question Id : 48558438237 Question Type : MCQ Option Shuffling : No Is Question Mandatory : No Calculator : None Response Time : N.A Think Time : N.A Minimum Instruction Time : 0

Correct Marks : 5 Wrong Marks : 1

Question Key Details :

Key	Value
Comprehension	MCQ

Select the incorrect sentences from the following options:

- A. We discussed about the matter yesterday.
- B. It is not likely that he will see his home again.
- C. I would rather you went through air.
- D. The negotiations were rattled off in secret.
- E. He urged them to be quiet and listen to his words.

Choose the most appropriate answer from the options given below:

- 1. C, D, E only
- 2. A, B, C only
- 3. A, C, D only
- 4. A and D only

Options :

- 485584152945. 1
- 485584152946. 2
- 485584152947. 3
- 485584152948. 4

Question Number : 38 Question Id : 48558438238 Question Type : MCQ Option Shuffling : No Is Question Mandatory : No Calculator : None Response Time : N.A Think Time : N.A Minimum Instruction Time : 0

Correct Marks : 5 Wrong Marks : 1

Question Key Details :

Key	Value
Comprehension	MCQ

Match List I with List II:

LIST I		LIST II	
A.	boil down to	I.	provide what is needed
B.	peter out	II.	most important thing
C.	tide over	III.	to continue or develop
D.	set in	IV.	fade gradually

Choose the correct answer from the options given below:

1. A-III, B-I, C-II, D-IV
2. A-II, B-IV, C-I, D-III
3. A-I, B-IV, C-III, D-II
4. A-III, B-II, C-I, D-IV

Options :

485584152949. 1
485584152950. 2
485584152951. 3
485584152952. 4

Question Number : 39 Question Id : 48558438239 Question Type : MCQ Option Shuffling : No Is Question Mandatory : No Calculator : None Response Time : N.A Think Time : N.A Minimum Instruction Time : 0

Correct Marks : 5 Wrong Marks : 1

Question Key Details :

Key	Value
Comprehension	MCQ

Match List I with List II:

LIST I		LIST II	
A.	parcel out	I.	divide
B.	alight on	II.	drift idly from place to place
C.	kick around	III.	causing to lose power
D.	edge out	IV.	find by chance

Choose the correct answer from the options given below:

1. A-I, B-IV, C-II, D-III
2. A-III, B-IV, C-II, D-I
3. A-IV, B-III, C-I, D-II
4. A-II, B-I, C-III, D-IV

Options :

485584152953. 1
485584152954. 2
485584152955. 3
485584152956. 4

Question Number : 40 Question Id : 48558438240 Question Type : MCQ Option Shuffling : No Is Question Mandatory : No Calculator : None Response Time : N.A Think Time : N.A Minimum Instruction Time : 0

Correct Marks : 5 Wrong Marks : 1

Question Key Details :

Key	Value
Comprehension	MCQ

Fill in the blanks with a suitable Homonym. Choose the appropriate word from the following options:

The pizza was delicious but I could not eat the _____ on top!

1. chilly
2. chilli
3. chillie
4. chielli

Options :

485584152957. 1
485584152958. 2
485584152959. 3
485584152960. 4

Question Number : 41 Question Id : 48558438241 Question Type : MCQ Option Shuffling : No Is Question Mandatory : No Calculator : None Response Time : N.A Think Time : N.A Minimum Instruction Time : 0

Correct Marks : 5 Wrong Marks : 1

Question Key Details :

Key	Value
Comprehension	MCQ

Match the words in List I with their Antonyms in List II:

LIST I		LIST II	
A.	Defame	I.	Hero
B.	Novice	II.	Expert
C.	Defunct	III.	Praise
D.	Antagonist	IV.	Important

Choose the correct answer from the options given below:

1. A-III, B-II, C-IV, D-I
2. A-II, B-I, C-III, D-IV
3. A-I, B-III, C-II, D-IV
4. A-IV, B-I, C-II, D-III

Options :

485584152961. 1
485584152962. 2
485584152963. 3
485584152964. 4

Question Number : 42 Question Id : 48558438242 Question Type : MCQ Option Shuffling : No Is Question Mandatory : No Calculator : None Response Time : N.A Think Time : N.A Minimum Instruction Time : 0

Correct Marks : 5 Wrong Marks : 1

Question Key Details :

Key	Value
-----	-------

Rearrange the following phrases to make a meaningful sentence:

- A. swung the hammer
- B. and banged my thumb
- C. when I
- D. without aiming properly
- E. I missed the nail

1. E, D, C, A, B
2. C, A, D, E, B
3. A, B, C, E, D
4. D, C, A, E, B

Options :

- 485584152965. 1
- 485584152966. 2
- 485584152967. 3
- 485584152968. 4

Question Number : 43 Question Id : 48558438243 Question Type : MCQ Option Shuffling : No Is Question Mandatory : No Calculator : None Response Time : N.A Think Time : N.A Minimum Instruction Time : 0

Correct Marks : 5 Wrong Marks : 1

Question Key Details :

Key	Value
Comprehension	MCQ

Match the words in List I with their Antonyms in List II:

LIST I		LIST II	
A.	Pretentious	I.	Unequal
B.	Egalitarian	II.	Energetic
C.	Accord	III.	Unassuming
D.	Lackadaisical	IV.	Dissent

Choose the correct answer from the options given below:

1. A-III, B-I, C-IV, D-II
2. A-I, B-II, C-IV, D-III
3. A-IV, B-III, C-II, D-I
4. A-I, B-III, C-IV, D-II

Options :

- 485584152969. 1
- 485584152970. 2
- 485584152971. 3
- 485584152972. 4

Question Number : 44 Question Id : 48558438244 Question Type : MCQ Option Shuffling : No Is Question Mandatory : No Calculator : None Response Time : N.A Think Time : N.A Minimum Instruction Time : 0

Correct Marks : 5 Wrong Marks : 1

Question Key Details :

Key	Value
Comprehension	MCQ

Identify the Adverbs used in the given sentences in List I and match them with the type given in List II:

LIST I		LIST II	
A.	Gautam Buddha left his family stealthily.	I.	adverb of degree
B.	I have pleaded enough and now I give up.	II.	interrogative adverbs
C.	How did you come here?	III.	adverb of manner
D.	He has not left the place.	IV.	adverb of affirmation/negation

Choose the correct answer from the options given below:

1. A-III, B-II, C-I, D-IV
2. A-II, B-III, C-I, D-IV
3. A-I, B-II, C-III, D-IV
4. A-III, B-I, C-II, D-IV

Options :

485584152973. 1
 485584152974. 2
 485584152975. 3
 485584152976. 4

Question Number : 45 Question Id : 48558438245 Question Type : MCQ Option Shuffling : No Is Question Mandatory : No Calculator : None Response Time : N.A Think Time : N.A Minimum Instruction Time : 0

Correct Marks : 5 Wrong Marks : 1

Question Key Details :

Key	Value
Comprehension	MCQ

Which of the following sentences demonstrate an incorrect form of the adverb?

- A. The moon shine bright in the day.
- B. You are pretty mistaken about him.
- C. He never comes late.
- D. It would hardly rain today.
- E. The have ran more faster than the dog.

Choose the correct answer from the options given below:

1. A and E only
2. A and C only
3. B and C only
4. D and E only

Options :

485584152977. 1
 485584152978. 2
 485584152979. 3
 485584152980. 4

Question Number : 46 Question Id : 48558438246 Question Type : MCQ Option Shuffling : No Is Question Mandatory : No Calculator : None Response Time : N.A Think Time : N.A Minimum Instruction Time : 0

Correct Marks : 5 Wrong Marks : 1

Question Key Details :

Key	Value
Comprehension	MCQ

Fill in the blank with an appropriate Question Tag:

You think this is funny, _____?

1. can you
2. must you
3. are you
4. do you

Options :

- 485584152981. 1
- 485584152982. 2
- 485584152983. 3
- 485584152984. 4

Question Number : 47 Question Id : 48558438247 Question Type : MCQ Option Shuffling : No Is Question Mandatory : No Calculator : None Response Time : N.A Think Time : N.A Minimum Instruction Time : 0

Correct Marks : 5 Wrong Marks : 1

Question Key Details :

Key	Value
Comprehension	MCQ

The following sentence is grammatically incorrect:

A great person use to lived in this house.

Correct the sentence above by choosing the most appropriate option:

1. A great person lived to use in that house.
2. A great person used to lived in that house.
3. A great person used to live in this house.
4. A great person use to lived in that house.

Options :

- 485584152985. 1
- 485584152986. 2
- 485584152987. 3
- 485584152988. 4

Question Number : 48 Question Id : 48558438248 Question Type : MCQ Option Shuffling : No Is Question Mandatory : No Calculator : None Response Time : N.A Think Time : N.A Minimum Instruction Time : 0

Correct Marks : 5 Wrong Marks : 1

Question Key Details :

Key	Value
Comprehension	MCQ

Match the Idioms in List I with their appropriate meaning in List II:

LIST I		LIST II	
A.	bite and dust	I.	extremely severe law
B.	assume airs	II.	be defeated
C.	dig the grave	III.	to destroy
D.	Draconian Law	IV.	pretend superiority

Choose the correct answer from the options given below:

1. A-I, B-II, C-IV, D-III
2. A-II, B-IV, C-III, D-I
3. A-III, B-IV, C-I, D-II
4. A-I, B-III, C-II, D-IV

Options :

485584152989. 1
 485584152990. 2
 485584152991. 3
 485584152992. 4

Question Number : 49 Question Id : 48558438249 Question Type : MCQ Option Shuffling : No Is Question Mandatory : No Calculator : None Response Time : N.A Think Time : N.A Minimum Instruction Time : 0

Correct Marks : 5 Wrong Marks : 1

Question Key Details :

Key	Value
Comprehension	MCQ

Match the Idioms in List I with their meanings in List II:

LIST I		LIST II	
A.	bone of contention	I.	close co-operation
B.	under the weather	II.	move on from a fight
C.	in cahoots	III.	cause of quarrel
D.	bury the hatchet	IV.	slightly unwell

Choose the correct answer from the options given below:

1. A-IV, B-III, C-I, D-II
2. A-II, B-I, C-IV, D-III
3. A-III, B-IV, C-I, D-II
4. A-I, B-II, C-III, D-IV

Options :

485584152993. 1
 485584152994. 2
 485584152995. 3
 485584152996. 4

Question Number : 50 Question Id : 48558438250 Question Type : MCQ Option Shuffling : No Is Question Mandatory : No Calculator : None Response Time : N.A Think Time : N.A Minimum Instruction Time : 0

Correct Marks : 5 Wrong Marks : 1

Question Key Details :

Key	Value

Out of the options given below, choose the sentence which contains an Adjective Clause:

1. He ate when he was hungry.
2. I know a place where they sell good food.
3. He will do it when the time is right.
4. I am glad that you had a good time.

Options :

485584152997. 1
 485584152998. 2
 485584152999. 3
 485584153000. 4

Hindi

Group Number :	2
Group Id :	485584883
Group Maximum Duration :	45
Group Minimum Duration :	45
Show Attended Group? :	No
Edit Attended Group? :	No
Break time :	0
Group Marks :	200
Is this Group for Examiner? :	No
Examiner permission :	Cant View
Show Progress Bar? :	No

Hindi

Section Id :	4855841023
Section Number :	1
Section type :	Online
Mandatory or Optional :	Mandatory
Number of Questions :	50
Number of Questions to be attempted :	40
Section Marks :	200
Enable Mark as Answered Mark for Review and Clear Response :	Yes
Maximum Instruction Time :	0
Sub-Section Number :	1
Sub-Section Id :	4855842892
Question Shuffling Allowed :	No
Is Section Default? :	null

Question Number : 51 Question Id : 48558438461 Question Type : MCQ Option Shuffling : No Is Question Mandatory : No Calculator : None Response Time : N.A Think Time : N.A Minimum Instruction Time : 0

Correct Marks : 5 Wrong Marks : 1

Question Key Details :

Key	Value
Comprehension	Comp1

निम्नलिखित गद्यांश के आधार पर प्रश्नों के उत्तर दीजिए।

जयंतियाँ ऐसी ही होती हैं। हम प्रेमचंद के लिए कुछ नहीं कर सकते। वे अपने और सबके लिए खुद ही कर गए। वे पढ़े जाते हैं और उनके लिखे पर विचार होता है। अगर वे पढ़े जाने वाले कथा-लेखक न होते और विचारणीय न होते, तो हजारों जयंती समारोहों से भी उनका कुछ नहीं सधता। उनकी जीवनी उनके पुत्र ने लिख ही दी है। विश्वविद्यालयों में उन पर शोध लगातार हो रहा है। बाहर के लोग अगर प्रेमचंद पर ज्यादा सोच-विचार करने लगे तो शोध करके प्रोफेसर होने वाले के पेट पर सात लगेगी। प्रेमचंद के साहित्य को पढ़कर तो भारत सरकार किसानों की हालत सुधार नहीं देगी। जमीनें बेदखल होंगी ही। कुत्ते-बिल्ली के नाम से ज़मीन कराई ही जाएगी।

उपरोक्त गद्यांश में किस लेखक की जयंती पर चर्चा की गई है।

1. जयशंकर प्रसाद
2. प्रभाकर माचवे
3. प्रेमचंद
4. विष्णुप्रभाकर

Options :

485584153841. 1
485584153842. 2
485584153843. 3
485584153844. 4

Question Number : 52 Question Id : 48558438462 Question Type : MCQ Option Shuffling : No Is Question Mandatory : No Calculator : None Response Time : N.A Think Time : N.A Minimum Instruction Time : 0

Correct Marks : 5 Wrong Marks : 1

Question Key Details :

Key	Value
Comprehension	Compl

निम्नलिखित गद्यांश के आधार पर प्रश्नों के उत्तर दीजिए।

जयंतियाँ ऐसी ही होती हैं। हम प्रेमचंद के लिए कुछ नहीं कर सकते। वे अपने और सबके लिए खुद ही कर गए। वे पढ़े जाते हैं और उनके लिखे पर विचार होता है। अगर वे पढ़े जाने वाले कथा-लेखक न होते और विचारणीय न होते, तो हजारों जयंती समारोहों से भी उनका कुछ नहीं सधता। उनकी जीवनी उनके पुत्र ने लिख ही दी है। विश्वविद्यालयों में उन पर शोध लगातार हो रहा है। बाहर के लोग अगर प्रेमचंद पर ज्यादा सोच-विचार करने लगे तो शोध करके प्रोफेसर होने वाले के पेट पर सात लगेगी। प्रेमचंद के साहित्य को पढ़कर तो भारत सरकार किसानों की हालत सुधार नहीं देगी। जमीनें बेदखल होंगी ही। कुत्ते-बिल्ली के नाम से ज़मीन कराई ही जाएगी।

प्रेमचन्द की जीवनी किसने लिखी है।

1. उनके भाई ने
2. उनकी पत्नी ने
3. उनकी पुत्रवधु ने
4. उनके पुत्र ने

Options :

485584153845. 1
485584153846. 2
485584153847. 3

Question Number : 53 Question Id : 48558438463 Question Type : MCQ Option Shuffling : No Is Question Mandatory : No Calculator : None
Response Time : N.A Think Time : N.A Minimum Instruction Time : 0

Correct Marks : 5 Wrong Marks : 1

Question Key Details :

Key	Value
Comprehension	Comp1

निम्नलिखित गद्यांश के आधार पर प्रश्नों के उत्तर दीजिए।

जयंतियाँ ऐसी ही होती हैं। हम प्रेमचंद के लिए कुछ नहीं कर सकते। वे अपने और सबके लिए खुद ही कर गए। वे पढ़े जाते हैं और उनके लिखे पर विचार होता है। अगर वे पढ़े जाने वाले कथा-लेखक न होते और विचारणीय न होते, तो हजारों जयंती समारोहों से भी उनका कुछ नहीं सधता। उनकी जीवनी उनके पुत्र ने लिख ही दी है। विश्वविद्यालयों में उन पर शोध लगातार हो रहा है। बाहर के लोग अगर प्रेमचंद पर ज्यादा सोच-विचार करने लगे तो शोध करके प्रोफेसर होने वाले के पेट पर सात लगेगी। प्रेमचंद के साहित्य को पढ़कर तो भारत सरकार किसानों की हालत सुधार नहीं देगी। जमीनें बेदखल होंगी ही। कुत्ते-बिल्ली के नाम से ज़मीन कराई ही जाएगी।

प्रेमचन्द का साहित्य पढ़कर भारत सरकार किसानों के बारे में क्या निर्णय लेगी?

1. हालत सुधारेगी
2. कानून बनाएगी
3. हालत सुधार नहीं देगी
4. कड़े कदम उठाएगी

Options :

485584153849. 1
485584153850. 2
485584153851. 3
485584153852. 4

Question Number : 54 Question Id : 48558438464 Question Type : MCQ Option Shuffling : No Is Question Mandatory : No Calculator : None
Response Time : N.A Think Time : N.A Minimum Instruction Time : 0

Correct Marks : 5 Wrong Marks : 1

Question Key Details :

Key	Value
Comprehension	Comp1

निम्नलिखित गद्यांश के आधार पर प्रश्नों के उत्तर दीजिए।

जयंतियाँ ऐसी ही होती हैं। हम प्रेमचंद के लिए कुछ नहीं कर सकते। वे अपने और सबके लिए खुद ही कर गए। वे पढ़े जाते हैं और उनके लिखे पर विचार होता है। अगर वे पढ़े जाने वाले कथा-लेखक न होते और विचारणीय न होते, तो हजारों जयंती समारोहों से भी उनका कुछ नहीं सधता। उनकी जीवनी उनके पुत्र ने लिख ही दी है। विश्वविद्यालयों में उन पर शोध लगातार हो रहा है। बाहर के लोग अगर प्रेमचंद पर ज्यादा सोच-विचार करने लगे तो शोध करके प्रोफेसर होने वाले के पेट पर सात लगेगी। प्रेमचंद के साहित्य को पढ़कर तो भारत सरकार किसानों की हालत सुधार नहीं देगी। जमीनें बेदखल होंगी ही। कुत्ते-बिल्ली के नाम से ज़मीन कराई ही जाएगी।

गद्यांश में किसके नाम ज़मीन कराए जाने की बात कही गयी है।

1. प्रेमचन्द के
2. सरकार के
3. लेखक के
4. कुत्ते-बिल्ली के

Options :

485584153853. 1
485584153854. 2
485584153855. 3
485584153856. 4

Question Number : 55 Question Id : 48558438465 Question Type : MCQ Option Shuffling : No Is Question Mandatory : No Calculator : None Response Time : N.A Think Time : N.A Minimum Instruction Time : 0

Correct Marks : 5 Wrong Marks : 1

Question Key Details :

Key	Value
Comprehension	Comp1

निम्नलिखित गद्यांश के आधार पर प्रश्नों के उत्तर दीजिए।

जयंतियाँ ऐसी ही होती हैं। हम प्रेमचंद के लिए कुछ नहीं कर सकते। वे अपने और सबके लिए खुद ही कर गए। वे पढ़े जाते हैं और उनके लिखे पर विचार होता है। अगर वे पढ़े जाने वाले कथा-लेखक न होते और विचारणीय न होते, तो हजारों जयंती समारोहों से भी उनका कुछ नहीं सधता। उनकी जीवनी उनके पुत्र ने लिख ही दी है। विश्वविद्यालयों में उन पर शोध लगातार हो रहा है। बाहर के लोग अगर प्रेमचंद पर ज्यादा सोच-विचार करने लगे तो शोध करके प्रोफेसर होने वाले के पेट पर लात लगेगी। प्रेमचंद के साहित्य को पढ़कर तो भारत सरकार किसानों की हालत सुधार नहीं देगी। जमीनें बेदखल होंगी ही। कुत्ते-बिल्ली के नाम से ज़मीन कराई ही जाएगी।

प्रेमचन्द पर शोध कहीं पर हो रहे हैं।

1. स्कूलों में
2. विश्वविद्यालयों में
3. कंपनियों में
4. मॉल में

Options :

485584153857. 1
485584153858. 2
485584153859. 3
485584153860. 4

Sub-Section Number :

2

Sub-Section Id :

4855842893

Question Shuffling Allowed :

No

Is Section Default? :

null

Question Number : 56 Question Id : 48558438466 Question Type : MCQ Option Shuffling : No Is Question Mandatory : No Calculator : None Response Time : N.A Think Time : N.A Minimum Instruction Time : 0

Correct Marks : 5 Wrong Marks : 1

Question Key Details :

Key	Value
Comprehension	Comp2

छाया की आँख मिचोनी
मेघों का मतवालापन
रजनी के श्याम कपोलों
पर ढरकीले श्रम के कन

उपर्युक्त पद्यांश में बचपन का कौन सा खेल आया है?

1. मतवालापन
2. आँख मिचोनी
3. श्रम के कन
4. ढरकीले

Options :

485584153861. 1
485584153862. 2
485584153863. 3
485584153864. 4

**Question Number : 57 Question Id : 48558438467 Question Type : MCQ Option Shuffling : No Is Question Mandatory : No Calculator : None
Response Time : N.A Think Time : N.A Minimum Instruction Time : 0**

Correct Marks : 5 Wrong Marks : 1

Question Key Details :

Key	Value
Comprehension	Comp2

छाया की आँख मिचोनी
मेघों का मतवालापन
रजनी के श्याम कपोलों
पर ढरकीले श्रम के कन

मतवालापन का क्या अर्थ है?

1. आवासापन
2. अकेलापन
3. उतावलापन
4. पागलपन

Options :

485584153865. 1
485584153866. 2
485584153867. 3
485584153868. 4

**Question Number : 58 Question Id : 48558438468 Question Type : MCQ Option Shuffling : No Is Question Mandatory : No Calculator : None
Response Time : N.A Think Time : N.A Minimum Instruction Time : 0**

Correct Marks : 5 Wrong Marks : 1

Question Key Details :

Key	Value
Comprehension	Comp2

छाया की आँख मिचोनी

मेघों का मतवालापन

रजनी के श्याम कपोलों

पर दरकीले श्रम के कन

श्रम के कन से क्या तात्पर्य है?

1. परिश्रम के कण
2. श्रम का पसीना
3. श्रम के कान
4. श्रम के कारण

Options :

485584153869. 1

485584153870. 2

485584153871. 3

485584153872. 4

Question Number : 59 Question Id : 48558438469 Question Type : MCQ Option Shuffling : No Is Question Mandatory : No Calculator : None
Response Time : N.A Think Time : N.A Minimum Instruction Time : 0

Correct Marks : 5 Wrong Marks : 1

Question Key Details :

Key	Value
Comprehension	Comp2

छाया की आँख मिचोनी

मेघों का मतवालापन

रजनी के श्याम कपोलों

पर दरकीले श्रम के कन

कपोलों का क्या अर्थ है?

1. कानों
2. गालों
3. होठों
4. बालों

Options :

485584153873. 1

485584153874. 2

485584153875. 3

485584153876. 4

Question Number : 60 Question Id : 48558438470 Question Type : MCQ Option Shuffling : No Is Question Mandatory : No Calculator : None
Response Time : N.A Think Time : N.A Minimum Instruction Time : 0

Correct Marks : 5 Wrong Marks : 1

Question Key Details :

Key	Value
Comprehension	Comp2

छाया की अखि मिचौनी

मेघों का मतखालापन

रजनी के श्याम कपोलों

पर दरकीले श्रम के कन

श्याम का क्या अर्थ है

1. श्री कृष्ण
2. हरा
3. साँवला
4. श्वेत

Options :

485584153877. 1

485584153878. 2

485584153879. 3

485584153880. 4

Sub-Section Number : 3
Sub-Section Id : 4855842894
Question Shuffling Allowed : No
Is Section Default? : null

Question Number : 61 Question Id : 48558438471 Question Type : MCQ Option Shuffling : No Is Question Mandatory : No Calculator : None
Response Time : N.A Think Time : N.A Minimum Instruction Time : 0

Correct Marks : 5 Wrong Marks : 1

Question Key Details :

Key	Value
Comprehension	Comp3

निम्नलिखित गद्यांश के आधार पर प्रश्नों के उत्तर दीजिए।

मास्टर मोतीराम बोले, "यहाँ अकेले मुन्नु चाचा ही के पास अक्ल नहीं है। इस कस्बे में सबसे पहले डीजल इंजिन कौन लाया था? जानता है कोई?"

लड़कों ने हाथ उठाकर कोरस में कहा, "आप! आप लाये थे।" मास्टर साहब ने संतोष के साथ मुन्नु के भतीजे की ओर देखा हिकारत से बोले, "सुन लिया। बेईमान मुन्नु ने तो डीजल इंजिन मेरी देखा देखी चलाया था। पर मेरी चक्की तो यह कॉलेज खुलने से पहले से चल रही थी। मेरी ही चक्की पर कॉलेज की इमारत के लिए हर आटा पिसवानेवाले से सेर-सेर भर आटे का दान लिया गया। मेरी ही चक्की में पिसकर वह आटा शहर में बिकने के लिए गया। मेरी ही चक्की पर कॉलेज की इमारत का नक्शा बना और मैनेजर काका ने कहा कि, 'मोती, कॉलेज में तुम रहोगे तो मास्टर ही, पर असली प्रिंसीपली तुम्हीं करोगे। सब कुछ तो मेरी चक्की पर हुआ और अब गाँव में चक्की है तो बेईमान मुन्नु की! मेरी चक्की कोई चीज़ ही न हुई।"

लड़के इत्मीनान से सुनते रहे। यह बात वे पहले भी सुन चुके थे और किसी भी समय सुनने के लिए तैयार रहते थे। उन पर कोई ख़ास असर नहीं पड़ा। पर मुन्नु के भतीजे ने कहा, "चीज़ तो मास्टर साहब आपकी भी बढ़िया है और मुन्नु चाचा की भी। पर आपकी चक्की पर धान कूटने वाली मशीन औरहालिंग मँगती है। धान उसमें ज्यादा टूटता है।

गद्यांश के नायक मास्टर जी का नाम क्या है।

1. गोपीराम
2. रामलाल
3. मोतीराम
4. रामसिंह

Options :

485584153881. 1
485584153882. 2
485584153883. 3
485584153884. 4

Question Number : 62 Question Id : 48558438472 Question Type : MCQ Option Shuffling : No Is Question Mandatory : No Calculator : None Response Time : N.A Think Time : N.A Minimum Instruction Time : 0

Correct Marks : 5 Wrong Marks : 1

Question Key Details :

Key	Value
Comprehension	Comp3

निम्नलिखित गद्यांश के आधार पर प्रश्नों के उत्तर दीजिए।

मास्टर मोतीराम बोले, "यहाँ अकेले मुन्नु चाचा ही के पास अक्ल नहीं है। इस कस्बे में सबसे पहले डीजल इंजिन कौन लाया था? जानता है कोई?"

लड़कों ने हाथ उठाकर कोरस में कहा, "आप! आप लाये थे।" मास्टर साहब ने संतोष के साथ मुन्नु के भतीजे की ओर देखा हिकारत से बोले, "सुन लिया। बेईमान मुन्नु ने तो डीजल इंजिन मेरी देखा देखी चलाया था। पर मेरी चक्की तो यह कॉलेज खुलने से पहले से चल रही थी। मेरी ही चक्की पर कॉलेज की इमारत के लिए हर आटा पिसवानेवाले से सेर-सेर भर आटे का दान लिया गया। मेरी ही चक्की में पिसकर वह आटा शहर में बिकने के लिए गया। मेरी ही चक्की पर कॉलेज की इमारत का नक्शा बना और मैनेजर काका ने कहा कि, 'मोती, कॉलेज में तुम रहोगे तो मास्टर ही, पर असली प्रिंसीपली तुम्हीं करोगे। सब कुछ तो मेरी चक्की पर हुआ और अब गाँव में चक्की है तो बेईमान मुन्नु की! मेरी चक्की कोई चीज़ ही न हुई।"

लड़के इत्मीनान से सुनते रहे। यह बात वे पहले भी सुन चुके थे और किसी भी समय सुनने के लिए तैयार रहते थे। उन पर कोई ख़ास असर नहीं पड़ा। पर मुन्नु के भतीजे ने कहा, "चीज़ तो मास्टर साहब आपकी भी बढ़िया है और मुन्नु चाचा की भी। पर आपकी चक्की पर धान कूटने वाली मशीन औरहालिंग मँगती है। धान उसमें ज्यादा टूटता है।

कस्बे में सबसे पहले डीजल इंजिन कौन लाया था?

1. मुन्नु
2. चून्नु
3. मास्टर जी
4. रामलाल

Options :

485584153885. 1
485584153886. 2
485584153887. 3
485584153888. 4

Question Number : 63 Question Id : 48558438473 Question Type : MCQ Option Shuffling : No Is Question Mandatory : No Calculator : None Response Time : N.A Think Time : N.A Minimum Instruction Time : 0

Correct Marks : 5 Wrong Marks : 1

Question Key Details :

Key	Value
Comprehension	Comp3

निम्नलिखित गद्यांश के आधार पर प्रश्नों के उत्तर दीजिए।

मास्टर मोतीराम बोले, "यहाँ अकेले मुन्नु चाचा ही के पास अक्ल नहीं है। इस कस्बे में सबसे पहले डीजल इंजिन कौन लाया था? जानता है कोई?"

लड़कों ने हाथ उठाकर कोरस में कहा, "आप! आप लाये थे।" मास्टर साहब ने संतोष के साथ मुन्नु के भतीजे की ओर देखा हिंकारत से बोले, "सुन लिया। बेईमान मुन्नु ने तो डीजल इंजिन मेरी देखा देखी चलाया था। पर मेरी चक्की तो यह कॉलेज खुलने से पहले से चल रही थी। मेरी ही चक्की पर कॉलेज की इमारत के लिए हर आटा पिसवानेवाले से सेर-सेर भर आटे का दान लिया गया। मेरी ही चक्की में पिसकर वह आटा शहर में बिकने के लिए गया। मेरी ही चक्की पर कॉलेज की इमारत का नक्शा बना और मैनेजर काका ने कहा कि, 'भोती, कॉलेज में तुम रहोगे तो मास्टर ही, पर असली प्रिंसीपली तुम्हीं करोगे। सब कुछ तो मेरी चक्की पर हुआ और अब गावँ में चक्की है तो बेईमान मुन्नु की! मेरी चक्की कोई चीज़ ही न हुई।"

लड़के इत्मीनान से सुनते रहे। यह बात वे पहले भी सुन चुके थे और किसी भी समय सुनने के लिए तैयार रहते थे। उन पर कोई ख़ास असर नहीं पड़ा। पर मुन्नु के भतीजे ने कहा, "चीज़ तो मास्टर साहब आपकी भी बढ़िया है और मुन्नु चाचा की भी। पर आपकी चक्की पर धान कूटने वाली मशीन ओवरहालिंग माँगती है। धान उसमें ज़्यादा टूटता है।

मास्टर जी की चक्की कब से चल रही थी।

1. वर्षों से
2. कॉलेज खुलने के बाद से
3. कॉलेज खुलने के पहले से
4. कॉलेज खुलने के साथ ही

Options :

485584153889. 1
485584153890. 2
485584153891. 3
485584153892. 4

Question Number : 64 Question Id : 48558438474 Question Type : MCQ Option Shuffling : No Is Question Mandatory : No Calculator : None Response Time : N.A Think Time : N.A Minimum Instruction Time : 0

Correct Marks : 5 Wrong Marks : 1

Question Key Details :

Key	Value
Comprehension	Comp3

निम्नलिखित गद्यांश के आधार पर प्रश्नों के उत्तर दीजिए।

मास्टर मोतीराम बोले, "यहाँ अकेले मुन्नु चाचा ही के पास अक्ल नहीं है। इस कस्बे में सबसे पहले डीजल इंजिन कौन लाया था? जानता है कोई?"

लड़कों ने हाथ उठाकर कोरस में कहा, "आप! आप लाये थे।" मास्टर साहब ने संतोष के साथ मुन्नु के भतीजे की ओर देखा हिकारत से बोले, "सुन लिया। बेईमान मुन्नु ने तो डीजल इंजिन मेरी देखा देखी चलाया था। पर मेरी चक्की तो यह कॉलेज खुलने से पहले से चल रही थी। मेरी ही चक्की पर इमारत के लिए हर आटा पिसवानेवाले से सेर-सेर भर आटे का दान लिया गया। मेरी ही चक्की में पिसकर वह आटा शहर में बिकने के लिए गया। मेरी ही चक्की पर कॉलेज की इमारत का नक्शा बना और मैनेजर काका ने कहा कि, "मोती, कॉलेज में तुम रहोगे तो मास्टर ही, पर असली प्रिंसीपली तुम्हीं करोगे। सब कुछ तो मेरी चक्की पर हुआ और अब गाँव में चक्की है तो बेईमान मुन्नु की! मेरी चक्की कोई चीज़ ही न हुई।"

लड़के इत्मीनान से सुनते रहे। यह बात वे पहले भी सुन चुके थे और किसी भी समय सुनने के लिए तैयार रहते थे। उन पर कोई ख़ास असर नहीं पड़ा। पर मुन्नु के भतीजे ने कहा, "चीज़ तो मास्टर साहब आपकी भी बढ़िया है और मुन्नु चाचा की भी। पर आपकी चक्की पर धान कूटने वाली मशीन ओवरहालिंग माँगती है। धान उसमें ज्यादा टूटता है।

मास्टर जी की चक्की पर धान कूटनेवाली मशीन क्या माँगती है।

1. सफाई
2. चिसाई
3. ओवरहालिंग
4. धुलाई

Options :

485584153893. 1
485584153894. 2
485584153895. 3
485584153896. 4

Question Number : 65 Question Id : 48558438475 Question Type : MCQ Option Shuffling : No Is Question Mandatory : No Calculator : None
Response Time : N.A Think Time : N.A Minimum Instruction Time : 0

Correct Marks : 5 Wrong Marks : 1

Question Key Details :

Key	Value
Comprehension	Comp3

निम्नलिखित गद्यांश के आधार पर प्रश्नों के उत्तर दीजिए।

मास्टर मोतीराम बोले, "यहाँ अकेले मुन्नु चाचा ही के पास अक्ल नहीं है। इस कस्बे में सबसे पहले डीजल इंजिन कौन लाया था? जानता है कोई?"

लड़कों ने हाथ उठाकर कोरस में कहा, "आप! आप लाये थे।" मास्टर साहब ने संतोष के साथ मुन्नु के भतीजे की ओर देखा हिकारत से बोले, "सुन लिया। बेईमान मुन्नु ने तो डीजल इंजिन मेरी देखा देखी चलाया था। पर मेरी चक्की तो यह कॉलेज खुलने से पहले से चल रही थी। मेरी ही चक्की पर कॉलेज की इमारत के लिए हर आटा पिसवानेवाले से सेर-सेर भर आटे का दान लिया गया। मेरी ही चक्की में पिसकर वह आटा शहर में बिकने के लिए गया। मेरी ही चक्की पर कॉलेज की इमारत का नक्शा बना और मैनेजर काका ने कहा कि, "मोती, कॉलेज में तुम रहोगे तो मास्टर ही, पर असली प्रिंसीपली तुम्हीं करोगे। सब कुछ तो मेरी चक्की पर हुआ और अब गाँव में चक्की है तो बेईमान मुन्नु की! मेरी चक्की कोई चीज़ ही न हुई।"

लड़के इत्मीनान से सुनते रहे। यह बात वे पहले भी सुन चुके थे और किसी भी समय सुनने के लिए तैयार रहते थे। उन पर कोई ख़ास असर नहीं पड़ा। पर मुन्नु के भतीजे ने कहा, "चीज़ तो मास्टर साहब आपकी भी बढ़िया है और मुन्नु चाचा की भी। पर आपकी चक्की पर धान कूटने वाली मशीन औरहालिंग मँगती है। धान उसमें ज्यादा टूटता है।

मोती, कॉलेज में तुम रहोगे तो मास्टर ही, पर असली प्रिंसीपली तुम्हीं करोगे। यह पंक्ति किस की है।

1. मैनेजर काका
2. मुन्नु
3. मुन्नु के चाचा
4. संतोष

Options :

485584153897. 1
485584153898. 2
485584153899. 3
485584153900. 4

Sub-Section Number : 4
Sub-Section Id : 4855842895
Question Shuffling Allowed : Yes
Is Section Default? : null

Question Number : 66 Question Id : 48558438476 Question Type : MCQ Option Shuffling : No Is Question Mandatory : No Calculator : None
Response Time : N.A Think Time : N.A Minimum Instruction Time : 0

Correct Marks : 5 Wrong Marks : 1

Question Key Details :

Key	Value
Comprehension	MCQ

सूची I का सूची II से मिलान कीजिए

सूची I सामासिक शब्द		सूची II समास	
A.	मृगछौना	I.	अव्ययीभाव समास
B.	मारपीट	II.	बहुव्रीहि समास
C.	निघडक	III.	तत्पुरुष समास
D.	पंचानन	IV.	द्वंद्व समास

निम्नलिखित विकल्पों में से सही उत्तर का चयन कीजिए :

1. A-III, B-IV, C-I, D-II
2. A-III, B-IV, C-II, D-I
3. A-III, B-I, C-IV, D-II
4. A-I, B-II, C-III, D-IV

Options :

485584153901. 1
485584153902. 2
485584153903. 3
485584153904. 4

Question Number : 67 Question Id : 48558438477 Question Type : MCQ Option Shuffling : No Is Question Mandatory : No Calculator : None
Response Time : N.A Think Time : N.A Minimum Instruction Time : 0

Correct Marks : 5 Wrong Marks : 1

Question Key Details :

Key	Value
Comprehension	MCQ

रहिमन पानी राखिए, बिन पानी सब सूत।

पानी गए न ऊबरे, मोती, मानुस, चून।।

उपर्युक्त दोहे में कौन सा अलंकार है

1. उपमा
2. शब्द श्लेष
3. उत्प्रेक्षा
4. वीप्सा

Options :

485584153905. 1
485584153906. 2
485584153907. 3
485584153908. 4

Question Number : 68 Question Id : 48558438478 Question Type : MCQ Option Shuffling : No Is Question Mandatory : No Calculator : None
Response Time : N.A Think Time : N.A Minimum Instruction Time : 0

Correct Marks : 5 Wrong Marks : 1

Question Key Details :

Key	Value
Comprehension	MCQ

कनक कनक ते सौगुनी मादकता अधिकाय।

पा खाए बौरात नर या पाए बौराय।।

उपर्युक्त दोहे में कौन सा अलंकार है?

1. उद्देश्य
2. उपमा
3. अतिशयोक्ति
4. यमक

Options :

485584153909. 1
485584153910. 2
485584153911. 3
485584153912. 4

Question Number : 69 Question Id : 48558438479 Question Type : MCQ Option Shuffling : No Is Question Mandatory : No Calculator : None Response Time : N.A Think Time : N.A Minimum Instruction Time : 0

Correct Marks : 5 Wrong Marks : 1

Question Key Details :

Key	Value
Comprehension	MCQ

सूची I का सूची II से मिलान कीजिए

सूची I		सूची II	
सर		स्थायी भाव	
A.	वीर रस	I.	भय
B.	हास्य रस	II.	रति
C.	भयानक रस	III.	उत्साह
D.	शृंगार रस	IV.	हास

निम्नलिखित विकल्पों में से सही उत्तर का चयन कीजिए :

1. A-IV, B-III, C-II, D-I
2. A-I, B-II, C-III, D-I
3. A-II, B-I, C-IV, D-III
4. A-III, B-IV, C-I, D-II

Options :

485584153913. 1
485584153914. 2
485584153915. 3
485584153916. 4

Question Number : 70 Question Id : 48558438480 Question Type : MCQ Option Shuffling : No Is Question Mandatory : No Calculator : None Response Time : N.A Think Time : N.A Minimum Instruction Time : 0

Correct Marks : 5 Wrong Marks : 1

Question Key Details :

Key	Value
Comprehension	MCQ

सूची I का सूची II से मिलान कीजिए

सूची I		सूची II	
A.	उग्र	I.	प्रधान
B.	कर्कश	II.	त्याग
C.	गौण	III.	सौम्य
D.	संग्रह	IV.	मृदुल

निम्नलिखित विकल्पों में से सही उत्तर का चयन कीजिए :

1. A-IV, B-II, C-I, D-III
2. A-III, B-IV, C-I, D-II
3. A-I, B-II, C-III, D-IV
4. A-III, B-I, C-IV, D-II

Options :

485584153917. 1
485584153918. 2
485584153919. 3
485584153920. 4

Question Number : 71 Question Id : 48558438481 Question Type : MCQ Option Shuffling : No Is Question Mandatory : No Calculator : None Response Time : N.A Think Time : N.A Minimum Instruction Time : 0

Correct Marks : 5 Wrong Marks : 1

Question Key Details :

Key	Value
Comprehension	MCQ

सूची I का सूची II से मिलान कीजिए

सूची I		सूची II	
A.	एकत्र	I.	मोक्ष
B.	ग्रस्त	II.	विकीर्ण
C.	ग्राम	III.	नागरिक
D.	ग्रामीण	IV.	मुक्त

निम्नलिखित विकल्पों में से सही उत्तर का चयन कीजिए :

1. A-I, B-III, C-II, D-IV
2. A-II, B-IV, C-III, D-I
3. A-II, B-IV, C-I, D-III
4. A-III, B-IV, C-II, D-I

Options :

485584153921. 1
485584153922. 2
485584153923. 3
485584153924. 4

Question Number : 72 Question Id : 48558438482 Question Type : MCQ Option Shuffling : No Is Question Mandatory : No Calculator : None Response Time : N.A Think Time : N.A Minimum Instruction Time : 0

Correct Marks : 5 Wrong Marks : 1

Question Key Details :

Key	Value
Comprehension	MCQ

22 भक्तिन के पुरखिन ने उससे कहा का लिंग है?

1. स्त्री लिंग
2. पुल्लिंग
3. नपुंसक लिंग
4. कोई नहीं

Options :

485584153925. 1
485584153926. 2
485584153927. 3
485584153928. 4

Question Number : 73 Question Id : 48558438483 Question Type : MCQ Option Shuffling : No Is Question Mandatory : No Calculator : None
Response Time : N.A Think Time : N.A Minimum Instruction Time : 0

Correct Marks : 5 Wrong Marks : 1

Question Key Details :

Key	Value
Comprehension	MCQ

ऐसे विषम प्रति द्विदियों की स्थिति कल्पना में भी दुर्लभ है- पंक्ति में वचन है?

1. एकवचन
2. बहुवचन
3. अंगवचन
4. शत्रुवचन

Options :

485584153929. 1
485584153930. 2
485584153931. 3
485584153932. 4

Question Number : 74 Question Id : 48558438484 Question Type : MCQ Option Shuffling : No Is Question Mandatory : No Calculator : None
Response Time : N.A Think Time : N.A Minimum Instruction Time : 0

Correct Marks : 5 Wrong Marks : 1

Question Key Details :

Key	Value
Comprehension	MCQ

गौदड़ शब्द का पर्यायवाची निम्नलिखित शब्दों में से कौन सा नहीं है-

1. जंबूक
2. लोमड़ी
3. श्रुगाल
4. सियार

Options :

485584153933. 1
485584153934. 2
485584153935. 3
485584153936. 4

Question Number : 75 Question Id : 48558438485 Question Type : MCQ Option Shuffling : No Is Question Mandatory : No Calculator : None
Response Time : N.A Think Time : N.A Minimum Instruction Time : 0

Correct Marks : 5 Wrong Marks : 1

Question Key Details :

Key	Value
Comprehension	MCQ

अनुपम शब्द का पर्यायवाची शब्द निम्न में से कौन सा नहीं है?

1. अपूर्व
2. अनोखा
3. अजीब
4. अतुल

Options :

485584153937. 1
485584153938. 2
485584153939. 3
485584153940. 4

Question Number : 76 Question Id : 48558438486 Question Type : MCQ Option Shuffling : No Is Question Mandatory : No Calculator : None
Response Time : N.A Think Time : N.A Minimum Instruction Time : 0

Correct Marks : 5 Wrong Marks : 1

Question Key Details :

Key	Value
Comprehension	MCQ

वह बात जो जनसाधारण में अरसे से प्रचलित हो वाक्यांश के लिए एक शब्द दें:

1. बात
2. सुक्ति
3. कहावत
4. किंवदन्ती

Options :

485584153941. 1
485584153942. 2
485584153943. 3
485584153944. 4

Question Number : 77 Question Id : 48558438487 Question Type : MCQ Option Shuffling : No Is Question Mandatory : No Calculator : None
Response Time : N.A Think Time : N.A Minimum Instruction Time : 0

Correct Marks : 5 Wrong Marks : 1

Question Key Details :

Key	Value
Comprehension	MCQ

बरसात की दोपहर में तालाब में लगी कुमुद सिंघाडा आदि में अनेक शब्दों के लिए एक शब्द है।

1. बरसात
2. कुमुद
3. सिंघाडा
4. तालाब

Options :

485584153945. 1
485584153946. 2
485584153947. 3
485584153948. 4

Question Number : 78 Question Id : 48558438488 Question Type : MCQ Option Shuffling : No Is Question Mandatory : No Calculator : None Response Time : N.A Think Time : N.A Minimum Instruction Time : 0

Correct Marks : 5 Wrong Marks : 1

Question Key Details :

Key	Value
Comprehension	MCQ

परिक्रमा परिवर्जन शब्दों में 'परि' उपसर्ग का अर्थ होगा-

1. आस-पास
2. पास-पास
3. सामने
4. चारो ओर

Options :

485584153949. 1
485584153950. 2
485584153951. 3
485584153952. 4

Question Number : 79 Question Id : 48558438489 Question Type : MCQ Option Shuffling : No Is Question Mandatory : No Calculator : None Response Time : N.A Think Time : N.A Minimum Instruction Time : 0

Correct Marks : 5 Wrong Marks : 1

Question Key Details :

Key	Value
Comprehension	MCQ

यह घर, वह घर, सब घर एक कर देने के माने बच्चा ही जाने। में अनेकार्थक शब्द है?

1. यह घर
2. वह घर
3. सब घर
4. कर देने

Options :

485584153953. 1
485584153954. 2
485584153955. 3

Question Number : 80 Question Id : 48558438490 Question Type : MCQ Option Shuffling : No Is Question Mandatory : No Calculator : None
Response Time : N.A Think Time : N.A Minimum Instruction Time : 0

Correct Marks : 5 Wrong Marks : 1

Question Key Details :

Key	Value
Comprehension	MCQ

चातक सुवाति की बूंद का प्यासा होता है।

उपर्युक्त रेखांकित शब्द का शुद्ध रूप पहचानिए:

1. सुवाती
2. सवाति
3. स्वाति
4. स्वाती

Options :

485584153957. 1
485584153958. 2
485584153959. 3
485584153960. 4

Question Number : 81 Question Id : 48558438491 Question Type : MCQ Option Shuffling : No Is Question Mandatory : No Calculator : None
Response Time : N.A Think Time : N.A Minimum Instruction Time : 0

Correct Marks : 5 Wrong Marks : 1

Question Key Details :

Key	Value
Comprehension	MCQ

सूची I का सूची II से मिलान कीजिए

सूची I शब्द का प्रकार		सूची II उदाहरण	
A.	तद् भव	I.	कटोर
B.	तत्सम	II.	हाथ
C.	देशज	III.	तकिया
D.	विदेशी	IV.	शस्त्र

निम्नलिखित विकल्पों में से सही उत्तर का चयन कीजिए :

1. A-I, B-IV, C-II, D-III
2. A-I, B-III, C-II, D-IV
3. A-II, B-IV, C-I, D-III
4. A-I, B-II, C-III, D-IV

Options :

485584153961. 1
485584153962. 2
485584153963. 3
485584153964. 4

Question Number : 82 Question Id : 48558438492 Question Type : MCQ Option Shuffling : No Is Question Mandatory : No Calculator : None

Response Time : N.A Think Time : N.A Minimum Instruction Time : 0

Correct Marks : 5 Wrong Marks : 1

Question Key Details :

Key	Value
Comprehension	MCQ

निम्नलिखित शब्द युग्म में से लड़व -तत्सम नहीं है-

1. उलूक-उल्लू
2. उच्च-ऊँचा
3. कर्ण-कान
4. आदित्यवार- शनिवार

Options :

485584153965. 1

485584153966. 2

485584153967. 3

485584153968. 4

Question Number : 83 Question Id : 48558438493 Question Type : MCQ Option Shuffling : No Is Question Mandatory : No Calculator : None

Response Time : N.A Think Time : N.A Minimum Instruction Time : 0

Correct Marks : 5 Wrong Marks : 1

Question Key Details :

Key	Value
Comprehension	MCQ

मैला आँचल के लेखक कौन है:

- A. प्रेमचन्द
- B. निराला
- C. फणीश्वर नाथ रेणु
- D. जयशंकर प्रसाद
- E. महादेवी वर्मा

नीचे दिए गए विकल्पों में से सही उत्तर का चयन कीजिए:

1. B
2. C
3. D
4. A

Options :

485584153969. 1

485584153970. 2

485584153971. 3

485584153972. 4

Question Number : 84 Question Id : 48558438494 Question Type : MCQ Option Shuffling : No Is Question Mandatory : No Calculator : None

Response Time : N.A Think Time : N.A Minimum Instruction Time : 0

Correct Marks : 5 Wrong Marks : 1

Question Key Details :

Key	Value
Comprehension	MCQ

निम्नलिखित रचनाओं का कालानुसार सही अनुक्रम लिखिए

- A. गोदान
- B. अंधेरी नगरी
- C. मेला आँचल
- D. राम दरबारी
- E. आठवाँ सर्ग

नीचे दिए गए विकल्पों में से सही उत्तर का चयन कीजिए:

- 1. A, B, C, D, E
- 2. B, A, C, D, E
- 3. E, B, C, D, A
- 4. E, D, A, B, C

Options :

- 485584153973. 1
- 485584153974. 2
- 485584153975. 3
- 485584153976. 4

Question Number : 85 Question Id : 48558438495 Question Type : MCQ Option Shuffling : No Is Question Mandatory : No Calculator : None Response Time : N.A Think Time : N.A Minimum Instruction Time : 0

Correct Marks : 5 Wrong Marks : 1

Question Key Details :

Key	Value
Comprehension	MCQ

एक उत्कृष्ट पत्र में निम्नलिखित विशेषताएँ होनी चाहिए

- A. पत्रों की भाषा शैली सरल व प्रभावपूर्ण होनी चाहिए
- B. पत्रों में विचारों का गुम्फन होना चाहिए
- C. पत्र अधिक लम्बा होना चाहिए
- D. पत्रों में अनावश्यक शब्दों का प्रयोग नहीं होना चाहिए
- E. बात को घुमा फिराकर नहीं कहना चाहिए

नीचे दिए गए विकल्पों में से सही उत्तर का चयन कीजिए:

- 1. केवल A, B, E
- 2. केवल A, D, E
- 3. केवल B, C, D
- 4. केवल C, D, E

Options :

- 485584153977. 1
- 485584153978. 2
- 485584153979. 3
- 485584153980. 4

Question Number : 86 Question Id : 48558438496 Question Type : MCQ Option Shuffling : No Is Question Mandatory : No Calculator : None Response Time : N.A Think Time : N.A Minimum Instruction Time : 0

Correct Marks : 5 Wrong Marks : 1

Question Key Details :

Key	Value
Comprehension	MCQ

तुम्हारे अतिरिक्त कोई भी उस मुर्ख को नहीं समझ सकता।

उपर्युक्त रेखांकित पद का विलोम शब्द क्या होगा-

1. अज्ञ
2. प्राच्य
3. प्रारं
4. विलक्षण

Options :

485584153981. 1
485584153982. 2
485584153983. 3
485584153984. 4

Question Number : 87 Question Id : 48558438497 Question Type : MCQ Option Shuffling : No Is Question Mandatory : No Calculator : None Response Time : N.A Think Time : N.A Minimum Instruction Time : 0

Correct Marks : 5 Wrong Marks : 1

Question Key Details :

Key	Value
Comprehension	MCQ

फिसल पड़े तो हर गंगा

उपर्युक्त लोकोक्ति का क्या अर्थ होगा:

- A. एक साथ दो काम करना
- B. फिसलकर गंगा नहाना
- C. गंगा पूजा नियम पूर्वक करना
- D. नुकसान उठाना
- E. मजूबरी में काम करना

नीचे दिए गए विकल्पों में से सही उत्तर का चयन कीजिए:

1. केवल A व B
2. केवल E
3. केवल D
4. केवल C व D

Options :

485584153985. 1
485584153986. 2
485584153987. 3
485584153988. 4

Question Number : 88 Question Id : 48558438498 Question Type : MCQ Option Shuffling : No Is Question Mandatory : No Calculator : None Response Time : N.A Think Time : N.A Minimum Instruction Time : 0

Correct Marks : 5 Wrong Marks : 1

Question Key Details :

Key	Value
Comprehension	MCQ

निम्नलिखित शब्दों में से किसमें उपसर्ग नहीं है-

1. विलोम
2. बँक सूर
3. संकर्षण
4. कथनी

Options :

485584153989. 1
485584153990. 2
485584153991. 3
485584153992. 4

Question Number : 89 Question Id : 48558438499 Question Type : MCQ Option Shuffling : No Is Question Mandatory : No Calculator : None Response Time : N.A Think Time : N.A Minimum Instruction Time : 0

Correct Marks : 5 Wrong Marks : 1

Question Key Details :

Key	Value
Comprehension	MCQ

ममेरा शब्द में प्रत्यय बताइए

- A. मम
- B. मरा
- C. ऐरा
- D. रा
- E. अरा

नीचे दिए गए विकल्पों में से सही उत्तर का चयन कीजिए:

1. केवल E
2. केवल D
3. केवल B
4. केवल C

Options :

485584153993. 1
485584153994. 2
485584153995. 3
485584153996. 4

Question Number : 90 Question Id : 48558438500 Question Type : MCQ Option Shuffling : No Is Question Mandatory : No Calculator : None Response Time : N.A Think Time : N.A Minimum Instruction Time : 0

Correct Marks : 5 Wrong Marks : 1

Question Key Details :

Key	Value
Comprehension	MCQ

निम्नलिखित में से कौन-सा निश्चित परिणामवाचक विशेषण नहीं है

1. पाँच लीटर पानी
2. दस किलो घास
3. बीस मीटर कपड़ा
4. थोड़ा सा दूध

Options :

485584153997. 1
485584153998. 2
485584153999. 3
485584154000. 4

Question Number : 91 Question Id : 48558438501 Question Type : MCQ Option Shuffling : No Is Question Mandatory : No Calculator : None
Response Time : N.A Think Time : N.A Minimum Instruction Time : 0

Correct Marks : 5 Wrong Marks : 1

Question Key Details :

Key	Value
Comprehension	MCQ

सूची I का सूची II से मिलान कीजिए

सूची I विशेषण का प्रकार	सूची II उदाहरण
A. गुणवाचक विशेषण	I. प्रत्येक
B. परिमाणवाचक विशेषण	II. पंजाबी
C. संख्यावाचक विशेषण	III. थोड़ी सी चीनी
D. सार्वनामिक विशेषण	IV. यह बाग हमारा है

निम्नलिखित विकल्पों में से सही उत्तर का चयन कीजिए :

1. A-II, B-III, C-I, D-IV
2. A-II, B-I, C-III, D-IV
3. A-II, B-I, C-III, D-IV
4. A-II, B-IV, C-III, D-I

Options :

485584154001. 1
485584154002. 2
485584154003. 3
485584154004. 4

Question Number : 92 Question Id : 48558438502 Question Type : MCQ Option Shuffling : No Is Question Mandatory : No Calculator : None
Response Time : N.A Think Time : N.A Minimum Instruction Time : 0

Correct Marks : 5 Wrong Marks : 1

Question Key Details :

Key	Value
Comprehension	MCQ

निम्नलिखित लक्षण माने गए है:

- कारकों के जिस रूप से क्रिया के करने का बोध हो, कर्त्ता कारक कहलाता है।
- क्रिया के कार्य का फल जिस पर पड़ता है उसे कर्म कारक कहते हैं।
- कर्त्ता जिसके लिए कुछ करता है, उसे प्रकट करने वाले रूप को सम्प्रदान कारक कहते हैं।
- संज्ञा के जिस रूप से किसी वस्तु से संबंध प्रकट हो, उसे अधिकरण कारक कहते हैं।
- जिस रूप से क्रिया के साधन का पता चले सम्प्रदान कारक कहलाता है।

नीचे दिए गए विकल्पों में से सही उत्तर का चयन कीजिए:

- केवल A, B और C
- केवल B और E
- केवल B, C और D
- केवल C, D और E

Options :

485584154005. 1
485584154006. 2
485584154007. 3
485584154008. 4

Question Number : 93 Question Id : 48558438503 Question Type : MCQ Option Shuffling : No Is Question Mandatory : No Calculator : None Response Time : N.A Think Time : N.A Minimum Instruction Time : 0

Correct Marks : 5 Wrong Marks : 1

Question Key Details :

Key	Value
Comprehension	MCQ

नीचे दो कथन दिए गए है: एक अभिकथन (ASSERTION A) के रूप में लिखित है तो दूसरा उसके कारण (REASON R) के रूप में, अभिकथन A : वह पब्लिक के हाथों मारा गया में रेखांकित पद करण कारक है।

कारण R : कर्त्ता कारक जिसके लिए या जिस उद्देश्य के लिए क्रिया का सम्पादन करता है, सम्प्रदान कारक होता है।

उपरोक्त कथन के अंतर्गत में, नीचे दिए गए विकल्पों में से सबसे उपयुक्त उत्तर का चयन कीजिए

- A और R दोनों सत्य हैं और R, A की सही व्याख्या नहीं है
- A और R दोनों सत्य हैं और R, A की सही व्याख्या नहीं है
- A सत्य है लेकिन R असत्य है
- A असत्य है लेकिन R सत्य है

Options :

485584154009. 1
485584154010. 2
485584154011. 3
485584154012. 4

Question Number : 94 Question Id : 48558438504 Question Type : MCQ Option Shuffling : No Is Question Mandatory : No Calculator : None Response Time : N.A Think Time : N.A Minimum Instruction Time : 0

Correct Marks : 5 Wrong Marks : 1

Question Key Details :

Key	Value
Comprehension	MCQ

सेवक- धर्म में हनुमान जी से स्पर्द्धा करने वाली भक्ति में क्रिया है?

1. अकर्मक
2. सकर्मक
3. प्रतिद्वंदी
4. निरंतर कार्यशील

Options :

485584154013. 1
485584154014. 2
485584154015. 3
485584154016. 4

Question Number : 95 Question Id : 48558438505 Question Type : MCQ Option Shuffling : No Is Question Mandatory : No Calculator : None Response Time : N.A Think Time : N.A Minimum Instruction Time : 0

Correct Marks : 5 Wrong Marks : 1

Question Key Details :

Key	Value
Comprehension	MCQ

अपमानित बालिका ने ओठ काटकर लहू निकाल लिया में क्रिया है?

1. सकर्मक
2. अकर्मक
3. ओठ काटकर
4. लहू निकाल लिया

Options :

485584154017. 1
485584154018. 2
485584154019. 3
485584154020. 4

Question Number : 96 Question Id : 48558438506 Question Type : MCQ Option Shuffling : No Is Question Mandatory : No Calculator : None Response Time : N.A Think Time : N.A Minimum Instruction Time : 0

Correct Marks : 5 Wrong Marks : 1

Question Key Details :

Key	Value
Comprehension	MCQ

वह प्रतिदिन लिखता है। वाक्य में प्रतिदिन है

1. संज्ञा
2. सर्वमान
3. अविकारी शब्द
4. क्रिया

Options :

485584154021. 1
485584154022. 2
485584154023. 3

Question Number : 97 Question Id : 48558438507 Question Type : MCQ Option Shuffling : No Is Question Mandatory : No Calculator : None
Response Time : N.A Think Time : N.A Minimum Instruction Time : 0

Correct Marks : 5 Wrong Marks : 1

Question Key Details :

Key	Value
Comprehension	MCQ

निम्नलिखित में से संधि की दृष्टि से अशुद्ध क्या होगा

1. तथापि
2. तदोपरान्त
3. तदाकार
4. तथैव

Options :

485584154025. 1
485584154026. 2
485584154027. 3
485584154028. 4

Question Number : 98 Question Id : 48558438508 Question Type : MCQ Option Shuffling : No Is Question Mandatory : No Calculator : None
Response Time : N.A Think Time : N.A Minimum Instruction Time : 0

Correct Marks : 5 Wrong Marks : 1

Question Key Details :

Key	Value
Comprehension	MCQ

सूची I का सूची II से मिलान कीजिए

सूची I		सूची II	
A.	स्वर संधि	I.	जगदीश
B.	व्यंजन संधि	II.	गायक
C.	अयादि संधि	III.	रासायन
D.	विसर्ग संधि	IV.	यशोदा

निम्नलिखित विकल्पों में से सही उत्तर का चयन कीजिए :

1. A-III, B-II, C-I, D-IV
2. A-III, B-IV, C-I, D-II
3. A-I, B-II, C-III, D-IV
4. A-III, B-I, C-II, D-IV

Options :

485584154029. 1
485584154030. 2
485584154031. 3
485584154032. 4

Question Number : 99 Question Id : 48558438509 Question Type : MCQ Option Shuffling : No Is Question Mandatory : No Calculator : None
Response Time : N.A Think Time : N.A Minimum Instruction Time : 0

Correct Marks : 5 Wrong Marks : 1

Question Key Details :

Key	Value
Comprehension	MCQ

छन्द की रचना किससे होती है:

1. छन्दियों के समायोजन से
2. गद्य व पद्य के समायोजन से
3. गणों के समायोजन से
4. अनुच्छेदों के समायोजन से

Options :

485584154033. 1
485584154034. 2
485584154035. 3
485584154036. 4

Question Number : 100 Question Id : 48558438510 Question Type : MCQ Option Shuffling : No Is Question Mandatory : No Calculator : None Response Time : N.A Think Time : N.A Minimum Instruction Time : 0

Correct Marks : 5 Wrong Marks : 1

Question Key Details :

Key	Value
Comprehension	MCQ

देवासुर शब्द में कौन सा समास है?

1. तत्पुरुष समास
2. द्वन्द्व समास
3. कर्मधारय समास
4. बहुब्रीहि समास

Options :

485584154037. 1
485584154038. 2
485584154039. 3
485584154040. 4

Odia

Group Number :	3
Group Id :	485584884
Group Maximum Duration :	45
Group Minimum Duration :	45
Show Attended Group? :	No
Edit Attended Group? :	No
Break time :	0
Group Marks :	200
Is this Group for Examiner? :	No
Examiner permission :	Can't View
Show Progress Bar? :	No

Odia

Section Id :	4855841024
Section Number :	1
Section type :	Online

Mandatory or Optional : Mandatory
Number of Questions : 50
Number of Questions to be attempted : 40
Section Marks : 200
Enable Mark as Answered Mark for Review and Clear Response : Yes
Maximum Instruction Time : 0
Sub-Section Number : 1
Sub-Section Id : 4855842896
Question Shuffling Allowed : No
Is Section Default? : null
Sub-Section Number : 2
Sub-Section Id : 4855842897
Question Shuffling Allowed : No
Is Section Default? : null
Sub-Section Number : 3
Sub-Section Id : 4855842898
Question Shuffling Allowed : No
Is Section Default? : null
Sub-Section Number : 4
Sub-Section Id : 4855842899
Question Shuffling Allowed : Yes
Is Section Default? : null

Accountancy

Group Number : 4
Group Id : 485584885
Group Maximum Duration : 60
Group Minimum Duration : 60
Show Attended Group? : No
Edit Attended Group? : No
Break time : 0
Group Marks : 200
Is this Group for Examiner? : No
Examiner permission : Cant View
Show Progress Bar? : No

Accountancy

Section Id : 4855841025
Section Number : 1
Section type : Online
Mandatory or Optional : Mandatory
Number of Questions : 50
Number of Questions to be attempted : 40
Section Marks : 200
Enable Mark as Answered Mark for Review and Clear Response : Yes
Maximum Instruction Time : 0
Sub-Section Number : 1
Sub-Section Id : 4855842900
Question Shuffling Allowed : Yes
Is Section Default? : null

Question Number : 101 Question Id : 48558437816 Question Type : MCQ Option Shuffling : No Is Question Mandatory : No Calculator : None
Response Time : N.A Think Time : N.A Minimum Instruction Time : 0

Correct Marks : 5 Wrong Marks : 1

Question Key Details :

Key	Value
Comprehension	MCQ

In the absence of partnership agreement, mutual relations of partners are governed by the _____

1. Provisions of Indian partnership Act 1942
2. Provisions of Indian partnership Act 1956
3. Provisions of Indian partnership Act 1936
4. Provisions of Indian partnership Act 1932

Options :

- 485584151261. 1
- 485584151262. 2
- 485584151263. 3
- 485584151264. 4

Question Number : 101 Question Id : 48558437816 Question Type : MCQ Option Shuffling : No Is Question Mandatory : No Calculator : None Response Time : N.A Think Time : N.A Minimum Instruction Time : 0

Correct Marks : 5 Wrong Marks : 1

Question Key Details :

Key	Value
Comprehension	MCQ

साझेदारी संलेख की अनुपस्थिति में, साझेदारों के मध्य पारस्परिक संवाद _____ द्वारा निर्वाह होते हैं।

1. भारतीय साझेदारी अधिनियम 1942 के प्रावधान
2. भारतीय साझेदारी अधिनियम 1956 के प्रावधान
3. भारतीय साझेदारी अधिनियम 1936 के प्रावधान
4. भारतीय साझेदारी अधिनियम 1932 के प्रावधान

Options :

- 485584151261. 1
- 485584151262. 2
- 485584151263. 3
- 485584151264. 4

Question Number : 102 Question Id : 48558437817 Question Type : MCQ Option Shuffling : No Is Question Mandatory : No Calculator : None Response Time : N.A Think Time : N.A Minimum Instruction Time : 0

Correct Marks : 5 Wrong Marks : 1

Question Key Details :

Key	Value
Comprehension	MCQ

Arrange the following in the context of Accounting for partnership.

- A. Preparation for Trading and Profit and Loss Account.
- B. Calculation of divisible profit or Loss.
- C. Preparation of profit and loss Appropriation Account.
- D. Preparation of Balance Sheet.
- E. Preparation of partners' capital Account.

Choose the correct answer from the given below:

- 1. A, C, B, E, D
- 2. A, C, E, B, D
- 3. B, C, D, E, A
- 4. C, D, E, A, B

Options :

- 485584151265. 1
- 485584151266. 2
- 485584151267. 3
- 485584151268. 4

Question Number : 102 Question Id : 48558437817 Question Type : MCQ Option Shuffling : No Is Question Mandatory : No Calculator : None Response Time : N.A Think Time : N.A Minimum Instruction Time : 0

Correct Marks : 5 Wrong Marks : 1

Question Key Details :

Key	Value
Comprehension	MCQ

निम्नलिखित को साझेदारी के खातों के सन्दर्भ में व्यवस्थित कीजिए -

- A. व्यापार तथा लाभ व हानि खाता तैयार करना
- B. विभाज्य लाभ अथवा हानि की गणना करना
- C. लाभ व हानि विनियोजन खाता तैयार करना
- D. तुलन पत्र तैयार करना
- E. साझेदारों का पूंजी खाता तैयार करना

नीचे दिये गये विकल्पों से सही उत्तर का चयन कीजिये :

- 1. A, C, B, E, D
- 2. A, C, E, B, D
- 3. B, C, D, E, A
- 4. C, D, E, A, B

Options :

- 485584151265. 1
- 485584151266. 2
- 485584151267. 3
- 485584151268. 4

Question Number : 103 Question Id : 48558437818 Question Type : MCQ Option Shuffling : No Is Question Mandatory : No Calculator : None Response Time : N.A Think Time : N.A Minimum Instruction Time : 0

Correct Marks : 5 Wrong Marks : 1

Question Key Details :

Key	Value
Comprehension	MCQ

Which of the following is not a charge against profit?

1. Manager's Commission
2. Rent to partner
3. Interest on Loan
4. Interest on Partner's Capital

Options :

485584151269. 1
485584151270. 2
485584151271. 3
485584151272. 4

Question Number : 103 Question Id : 48558437818 Question Type : MCQ Option Shuffling : No Is Question Mandatory : No Calculator : None Response Time : N.A Think Time : N.A Minimum Instruction Time : 0

Correct Marks : 5 Wrong Marks : 1

Question Key Details :

Key	Value
Comprehension	MCQ

निम्नलिखित में से कौन-सा लाभ के विरुद्ध एक प्रभार नहीं है?

1. प्रबंधक का कमीशन
2. साझेदार को किराया
3. ऋण पर ब्याज
4. साझेदार पूंजी पर ब्याज

Options :

485584151269. 1
485584151270. 2
485584151271. 3
485584151272. 4

Question Number : 104 Question Id : 48558437819 Question Type : MCQ Option Shuffling : No Is Question Mandatory : No Calculator : None Response Time : N.A Think Time : N.A Minimum Instruction Time : 0

Correct Marks : 5 Wrong Marks : 1

Question Key Details :

Key	Value
Comprehension	MCQ

Capital employed by a Partnership firm is ₹ 5,00,00. Its average profit is Rs. 60,000. The normal rate of return in similar type of business is 10%. The amount of super profits of the firm will be:-

1. ₹50,000
2. ₹10,000
3. ₹6,000
4. ₹16,000

Options :

485584151273. 1
485584151274. 2
485584151275. 3
485584151276. 4

Question Number : 104 Question Id : 48558437819 Question Type : MCQ Option Shuffling : No Is Question Mandatory : No Calculator : None
Response Time : N.A Think Time : N.A Minimum Instruction Time : 0

Correct Marks : 5 Wrong Marks : 1

Question Key Details :

Key	Value
Comprehension	MCQ

एक साझेदारी फर्म में निवेशित पूंजी ₹ 5,00,000 है। इसका औसत लाभ ₹ 60000 है। इस प्रकार के व्यवसाय में सामान्य प्रत्याय की दर 10% है। फर्म द्वारा अर्जित अचिंता की राशि होगी -

1. ₹50,000
2. ₹10,000
3. ₹6,000
4. ₹16,000

Options :

485584151273. 1
485584151274. 2
485584151275. 3
485584151276. 4

Question Number : 105 Question Id : 48558437820 Question Type : MCQ Option Shuffling : No Is Question Mandatory : No Calculator : None
Response Time : N.A Think Time : N.A Minimum Instruction Time : 0

Correct Marks : 5 Wrong Marks : 1

Question Key Details :

Key	Value
Comprehension	MCQ

At the time of admission of a new partner, general reserve appearing in the old Balance Sheet is transferred to:-

1. All partners' Capital accounts
2. New partner's Capital account
3. Old Partners' Capital accounts
4. Sacrificing Partners' Capital accounts

Options :

485584151277. 1
485584151278. 2
485584151279. 3
485584151280. 4

Question Number : 105 Question Id : 48558437820 Question Type : MCQ Option Shuffling : No Is Question Mandatory : No Calculator : None
Response Time : N.A Think Time : N.A Minimum Instruction Time : 0

Correct Marks : 5 Wrong Marks : 1

Question Key Details :

Key	Value
Comprehension	MCQ

नये साझेदार के प्रवेश के समय, पुराने तुलन-पत्र में विद्यमान सामान्य संचय हस्तांतरित होता है -

1. सभी साझेदारों के पूंजी खाते में
2. नये साझेदार के पूंजी खाते में
3. पुराने साझेदार के पूंजी खाते में
4. त्याग करने वाले साझेदार के पूंजी खाते में

Options :

485584151277. 1
485584151278. 2
485584151279. 3
485584151280. 4

Question Number : 106 Question Id : 48558437821 Question Type : MCQ Option Shuffling : No Is Question Mandatory : No Calculator : None Response Time : N.A Think Time : N.A Minimum Instruction Time : 0

Correct Marks : 5 Wrong Marks : 1

Question Key Details :

Key	Value
Comprehension	MCQ

Alia and Deepika are partners in a firm. They admitted Priyanka into partnership giving her $\frac{1}{5}$ th share which she acquired from Alia and Deepika in the ratio of 1:2 . What will be the new profit sharing ratio?

1. 7:5:3
2. 9:7:4
3. 13:11:6
4. 2:2:1

Options :

485584151281. 1
485584151282. 2
485584151283. 3
485584151284. 4

Question Number : 106 Question Id : 48558437821 Question Type : MCQ Option Shuffling : No Is Question Mandatory : No Calculator : None Response Time : N.A Think Time : N.A Minimum Instruction Time : 0

Correct Marks : 5 Wrong Marks : 1

Question Key Details :

Key	Value
Comprehension	MCQ

आलिया तथा दीपिका एक फर्म में साझेदार हैं। उन्होंने प्रियंका को $\frac{1}{5}$ भाग हेतु साझेदारी में प्रवेश दिया जिसे वह आलिया तथा दीपिका से 1:2 के अनुपात गृहीत करती है। नया लाभ विभाजन अनुपात क्या होगा?

1. 7:5:3
2. 9:7:4
3. 13:11:6
4. 2:2:1

Options :

485584151281. 1

485584151282. 2
485584151283. 3
485584151284. 4

Question Number : 107 Question Id : 48558437822 Question Type : MCQ Option Shuffling : No Is Question Mandatory : No Calculator : None
Response Time : N.A Think Time : N.A Minimum Instruction Time : 0

Correct Marks : 5 Wrong Marks : 1

Question Key Details :

Key	Value
Comprehension	MCQ

Radhika and Raman are the partners in a firm sharing Profits in the ratio of 7:3. They admitted Kamal as a new partner for $\frac{1}{10}$ th share. Kamal brings ₹ 19,75,000 as his capital and necessary share for premium for goodwill.

It was agreed to value the goodwill at 3 years purchase of super Profit. During the year, the firm earned a profit of ₹ 4,50,000 and capital employed ₹ 17,50,000. If normal rate of return is 15%, calculate the amount that Kamal should bring in for goodwill.

1. ₹ 56,250
2. ₹ 5,62,500
3. ₹ 1,87,500
4. ₹ 2,62,500

Options :

485584151285. 1
485584151286. 2
485584151287. 3
485584151288. 4

Question Number : 107 Question Id : 48558437822 Question Type : MCQ Option Shuffling : No Is Question Mandatory : No Calculator : None
Response Time : N.A Think Time : N.A Minimum Instruction Time : 0

Correct Marks : 5 Wrong Marks : 1

Question Key Details :

Key	Value
Comprehension	MCQ

राधिका तथा रमन एक फर्म में साझेदार है जो लाभ का विभाजन 7:3 के अनुपात में करते है। उन्होने कमल को एक नये साझेदार के रूप में $\frac{1}{10}$ भाग हेतु शामिल किया। कमल ₹ 19,75,000 पूंजी के रूप तथा ख्याति प्रतिफल हेतु आवश्यक राशि लाता है। ख्याति का मूल्य अधिलाभ पर 3 वर्षों के क्रय पर सहमति हुई। वर्ष अक्वि के दौरान, फर्म ने ₹ 4,50,000 का लाभ अर्जित किया तथा निवेशित पूंजी ₹17,50,000 है। यदि सामान्य प्रत्याय की दर 15% है। ख्याति हेतु कमल द्वारा लाई जाने वाली राशि की गणना कीजिए ?

1. ₹ 56,250
2. ₹ 5,62,500
3. ₹ 1,87,500
4. ₹ 2,62,500

Options :

485584151285. 1
485584151286. 2
485584151287. 3
485584151288. 4

Question Number : 108 Question Id : 48558437823 Question Type : MCQ Option Shuffling : No Is Question Mandatory : No Calculator : None
Response Time : N.A Think Time : N.A Minimum Instruction Time : 0

Correct Marks : 5 Wrong Marks : 1

Question Key Details :

Key	Value
Comprehension	MCQ

At the time of retirement of a Partner, gain on revaluation will be credited to:

1. Capital A/c of retiring partner
2. Capital A/c of all Partners in their old Profit Sharing ratio
3. Capital accounts of remaining partners in their old Profit sharing ratio
4. Capital A/c of the remaining Partners in their new Profit Sharing ratio

Options :

485584151289. 1
485584151290. 2
485584151291. 3
485584151292. 4

Question Number : 108 Question Id : 48558437823 Question Type : MCQ Option Shuffling : No Is Question Mandatory : No Calculator : None Response Time : N.A Think Time : N.A Minimum Instruction Time : 0

Correct Marks : 5 Wrong Marks : 1

Question Key Details :

Key	Value
Comprehension	MCQ

एक साझेदार की सेवानिवृत्ति के समय, पुनर्मूल्यांकन पर लाभ धनी होगा -

1. सेवानिवृत्ति साझेदार की पूंजी खाते में
2. सभी साझेदारों के पूंजी खाते में पुराने लाभ विभाजन अनुपात में
3. शेष साझेदारों के पूंजी खाते में उनके पुराने लाभ विभाजन अनुपात में
4. शेष साझेदारों के पूंजी खाते में उनके नये लाभ विभाजन अनुपात में

Options :

485584151289. 1
485584151290. 2
485584151291. 3
485584151292. 4

Question Number : 109 Question Id : 48558437824 Question Type : MCQ Option Shuffling : No Is Question Mandatory : No Calculator : None Response Time : N.A Think Time : N.A Minimum Instruction Time : 0

Correct Marks : 5 Wrong Marks : 1

Question Key Details :

Key	Value
Comprehension	MCQ

On a Dissolution of a firm, repayment of Partner's loan to the firm will be shown in:

1. Credit of Realisation Account
2. Partner's Capital Account
3. Partner's Current Account
4. Credit of Bank A/c

Options :

485584151293. 1
485584151294. 2

485584151295. 3
485584151296. 4

Question Number : 109 Question Id : 48558437824 Question Type : MCQ Option Shuffling : No Is Question Mandatory : No Calculator : None
Response Time : N.A Think Time : N.A Minimum Instruction Time : 0
Correct Marks : 5 Wrong Marks : 1

Question Key Details :

Key	Value
Comprehension	MCQ

एक फर्म के विघटन पर, फर्म द्वारा साझेदार के ऋण का भुगतान कहाँ दिखाया जायेगा -

1. वसूली खाता के धनी पक्ष
2. साझेदारों के पूंजी खाते है
3. साझेदारों के चालू खाता में
4. बैंक खाते में, धनी पक्ष

Options :

485584151293. 1
485584151294. 2
485584151295. 3
485584151296. 4

Question Number : 110 Question Id : 48558437825 Question Type : MCQ Option Shuffling : No Is Question Mandatory : No Calculator : None
Response Time : N.A Think Time : N.A Minimum Instruction Time : 0
Correct Marks : 5 Wrong Marks : 1

Question Key Details :

Key	Value
Comprehension	MCQ

On dissolution of partnership firm, unrecorded assets when taken over by a partner are shown in:

1. Debit side of Realisation A/c
2. Credit side of Realisation A/c
3. Credit side of Bank A/c
4. Debit side of Bank A/c

Options :

485584151297. 1
485584151298. 2
485584151299. 3
485584151300. 4

Question Number : 110 Question Id : 48558437825 Question Type : MCQ Option Shuffling : No Is Question Mandatory : No Calculator : None
Response Time : N.A Think Time : N.A Minimum Instruction Time : 0
Correct Marks : 5 Wrong Marks : 1

Question Key Details :

Key	Value
Comprehension	MCQ

जब गैर-अभिलेखित परिसंपत्तियाँ एक साझेदार द्वारा ली जाती हैं तो _____ में दर्शाई जाती हैं :

1. वसूली खाते के ऋणी पक्ष
2. वसूली खाते के धनी पक्ष
3. बैंक खाते के धनी पक्ष
4. बैंक खाते के ऋणी पक्ष

Options :

485584151297. 1
485584151298. 2
485584151299. 3
485584151300. 4

Question Number : 111 Question Id : 48558437826 Question Type : MCQ Option Shuffling : No Is Question Mandatory : No Calculator : None Response Time : N.A Think Time : N.A Minimum Instruction Time : 0

Correct Marks : 5 Wrong Marks : 1

Question Key Details :

Key	Value
Comprehension	MCQ

Satish was appointed to look after the dissolution work for which he was allowed a remuneration of ₹ 14,000. He agreed to take over the investment of the book value of ₹ 11,000 towards payment of his full remuneration. (Investments have already been transferred to Realisation A/c) Journalize.

1. No Entry
2. Dr. Realisation A/c ₹14,000; Cr. Bank A/c ₹14,000
3. Dr. Realisation A/c ₹11,000; Cr. Bank A/c ₹11,000.
4. Dr. Satish's Capital. A/c ₹14,000; Cr Bank A/c ₹14,000

Options :

485584151301. 1
485584151302. 2
485584151303. 3
485584151304. 4

Question Number : 111 Question Id : 48558437826 Question Type : MCQ Option Shuffling : No Is Question Mandatory : No Calculator : None Response Time : N.A Think Time : N.A Minimum Instruction Time : 0

Correct Marks : 5 Wrong Marks : 1

Question Key Details :

Key	Value
Comprehension	MCQ

सतीश की नियुक्ति विघटन कार्य की देखभाल करने हेतु जिसके लिए उसे ₹ 14000 का पारिश्रमिक मिलना है। वह अपने पूर्ण पारिश्रमिक के भुगतान हेतु ₹11000 पुस्तक मूल्य का निवेश लेने पर सहमत हुआ (निवेश पहले से ही वसूली खाते में हस्तांतरित हो चुका है) प्रविष्टि कीजिये।

1. कोई प्रविष्टि नहीं
2. वसूली खाता ऋणी ₹14000; बैंक खाता धनी ₹14000
3. वसूली खाता ऋणी ₹11000; बैंक खाता धनी ₹11000
4. सतीश का पूंजी खाता ऋणी ₹14000; बैंक खाता धनी ₹14000

Options :

485584151301. 1
485584151302. 2
485584151303. 3
485584151304. 4

Question Number : 112 Question Id : 48558437827 Question Type : MCQ Option Shuffling : No Is Question Mandatory : No Calculator : None
Response Time : N.A Think Time : N.A Minimum Instruction Time : 0

Correct Marks : 5 Wrong Marks : 1

Question Key Details :

Key	Value
Comprehension	MCQ

At the time of dissolution of partnership firm, debtors were realised at a discount of 5% (Book value was ₹ 48,000). Amount realised at the time of dissolution was-

1. ₹ 47,600
2. ₹ 44,600
3. ₹ 48,000
4. ₹ 45,600

Options :

485584151305. 1
485584151306. 2
485584151307. 3
485584151308. 4

Question Number : 112 Question Id : 48558437827 Question Type : MCQ Option Shuffling : No Is Question Mandatory : No Calculator : None
Response Time : N.A Think Time : N.A Minimum Instruction Time : 0

Correct Marks : 5 Wrong Marks : 1

Question Key Details :

Key	Value
Comprehension	MCQ

साझेदारी फर्म के विघटन के समय, देनदार 5% के बट्टे पर वसूल हुये (पुस्तक मूल्य ₹ 48,000 था) विघटन के समय वसूल हुए राशि थी -

1. ₹ 47,600
2. ₹ 44,600
3. ₹ 48,000
4. ₹ 45,600

Options :

485584151305. 1
485584151306. 2
485584151307. 3
485584151308. 4

Question Number : 113 Question Id : 48558437828 Question Type : MCQ Option Shuffling : No Is Question Mandatory : No Calculator : None
Response Time : N.A Think Time : N.A Minimum Instruction Time : 0

Correct Marks : 5 Wrong Marks : 1

Question Key Details :

Key	Value
Comprehension	MCQ

As per the Financial Statement of X Ltd, its shareholders' funds are ₹ 25,00,000. Non current liabilities are ₹ 4,80,000 and current liabilities are ₹ 10,00,000. Non current assets are ₹ 13,80,000. Working capital of the company is:

1. ₹ 16,00,000
2. ₹ 29,80,000
3. ₹ 33,80,000
4. ₹ 34,00,000

Options :

485584151309. 1
485584151310. 2
485584151311. 3
485584151312. 4

Question Number : 113 Question Id : 48558437828 Question Type : MCQ Option Shuffling : No Is Question Mandatory : No Calculator : None Response Time : N.A Think Time : N.A Minimum Instruction Time : 0

Correct Marks : 5 Wrong Marks : 1

Question Key Details :

Key	Value
Comprehension	MCQ

X लि० के वित्तीय विवरण के अनुसार अभिधारकों की निधि ₹ 25,00,000 है गैर -चालू दायित्व ₹ 4,80,000 तथा चालू दायित्व ₹ 10,00,000 है गैर चालू परिसंपत्तिया ₹ 13,80,000 है कंपनी की कार्यशील पूंजी है -

1. ₹ 16,00,000
2. ₹ 29,80,000
3. ₹ 33,80,000
4. ₹ 34,00,000

Options :

485584151309. 1
485584151310. 2
485584151311. 3
485584151312. 4

Question Number : 114 Question Id : 48558437829 Question Type : MCQ Option Shuffling : No Is Question Mandatory : No Calculator : None Response Time : N.A Think Time : N.A Minimum Instruction Time : 0

Correct Marks : 5 Wrong Marks : 1

Question Key Details :

Key	Value
Comprehension	MCQ

From the following Particulars, calculate cash flow from investing activities:-

A plot of land been purchased for investment purpose and was let out for commercial use and rent received ₹ 30,000.

Interest paid on debentures ₹ 60,000

Purchase of Plant ₹ 4,40,000

Goodwill written off ₹ 20,000

Sale of Land ₹ 5,00,000

1. ₹ 70,000
2. ₹ 1,50,000
3. ₹ 30,000
4. ₹ 90,000

Options :

485584151313. 1
485584151314. 2
485584151315. 3
485584151316. 4

Question Number : 114 Question Id : 48558437829 Question Type : MCQ Option Shuffling : No Is Question Mandatory : No Calculator : None Response Time : N.A Think Time : N.A Minimum Instruction Time : 0

Correct Marks : 5 Wrong Marks : 1

Question Key Details :

Key	Value
Comprehension	MCQ

निम्नलिखित विवरणों से निवेश क्रियाकलापों से रोकड़ प्रवाह की गणना कीजिये :-

पदि भूखंड निवेश उद्देश्य से क्रय किया तथा व्यापारिक प्रयोग हेतु किराये पर दिया तथा प्राप्त किराया ₹ 30,000 है

ऋणपत्रों पर व्याज का भुगतान
-60,000

संयंत्र का क्रय ₹ 4,40,000

अपलिखित ख्याति ₹
20,000

भूमि का विक्रय ₹ 5,00,000

1. ₹ 70,000
2. ₹ 1,50,000
3. ₹ 30,000
4. ₹ 90,000

Options :

485584151313. 1
485584151314. 2
485584151315. 3
485584151316. 4

Question Number : 115 Question Id : 48558437830 Question Type : MCQ Option Shuffling : No Is Question Mandatory : No Calculator : None Response Time : N.A Think Time : N.A Minimum Instruction Time : 0

Correct Marks : 5 Wrong Marks : 1

Question Key Details :

Key	Value
Comprehension	MCQ

Match List I with List II

LIST I		LIST II	
A.	Revaluation Reserve	I.	Share Capital
B.	Issued Capital	II.	Other Non current Assets
C.	Discount on issue of debentures	III.	Inventories
D.	Loose tool	IV.	Reserve and Surplus

Choose the correct answer from the options given below:

1. A-I, B-II, C-III, D-IV
2. A-II, B-III, C-IV, D-I
3. A-III, B-IV, C-I, D-II
4. A-IV, B-I, C-II, D-III

Options :

485584151317. 1
485584151318. 2
485584151319. 3
485584151320. 4

Question Number : 115 Question Id : 48558437830 Question Type : MCQ Option Shuffling : No Is Question Mandatory : No Calculator : None
Response Time : N.A Think Time : N.A Minimum Instruction Time : 0

Correct Marks : 5 Wrong Marks : 1

Question Key Details :

Key	Value
Comprehension	MCQ

सूची I का सूची II से मिलान कीजिए

सूची I		सूची II	
A.	पुनर्मुल्यांकन संचय	I.	अंश पूंजी
B.	निर्गमित पूंजी	II.	अन्य गैर चालू परिसंपत्तियां
C.	ऋणपत्रों के निर्गमन पर छूट	III.	रहतिप्या
D.	कल पूंजी	IV.	आरक्षितिया तथा अधिशेष

निम्नलिखित विकल्पों में से सही उत्तर का चयन कीजिए :

1. A-I, B-II, C-III, D-IV
2. A-II, B-III, C-IV, D-I
3. A-III, B-IV, C-I, D-II
4. A-IV, B-I, C-II, D-III

Options :

485584151317. 1
485584151318. 2
485584151319. 3
485584151320. 4

Question Number : 116 Question Id : 48558437831 Question Type : MCQ Option Shuffling : No Is Question Mandatory : No Calculator : None
Response Time : N.A Think Time : N.A Minimum Instruction Time : 0

Correct Marks : 5 Wrong Marks : 1

Question Key Details :

Key	Value
Comprehension	MCQ

Which of the following item is not considered as cash and cash equivalent?

1. Treasury Bills
2. Commercial Papers
3. Marketable Securities
4. Bills of Exchange

Options :

- 485584151321. 1
- 485584151322. 2
- 485584151323. 3
- 485584151324. 4

Question Number : 116 Question Id : 48558437831 Question Type : MCQ Option Shuffling : No Is Question Mandatory : No Calculator : None Response Time : N.A Think Time : N.A Minimum Instruction Time : 0

Correct Marks : 5 Wrong Marks : 1

Question Key Details :

Key	Value
Comprehension	MCQ

निम्नलिखित में से किस मद को रोकड़ तथा रोकड़ तुल्यांक नहीं माना जाता?

1. राजकोष बिल
2. वाणिज्यिक पत्र
3. विपणन योग्य प्रतिभूतियां
4. विनियम विपत्र

Options :

- 485584151321. 1
- 485584151322. 2
- 485584151323. 3
- 485584151324. 4

Question Number : 117 Question Id : 48558437832 Question Type : MCQ Option Shuffling : No Is Question Mandatory : No Calculator : None Response Time : N.A Think Time : N.A Minimum Instruction Time : 0

Correct Marks : 5 Wrong Marks : 1

Question Key Details :

Key	Value
Comprehension	MCQ

Method of codification should be:

1. Easy to understand, cryptic and process data
2. Such that it leads to grouping of accounts
3. An identification mark
4. To safeguard assets

Options :

- 485584151325. 1
- 485584151326. 2
- 485584151327. 3

485584151328. 4

Question Number : 117 Question Id : 48558437832 Question Type : MCQ Option Shuffling : No Is Question Mandatory : No Calculator : None
Response Time : N.A Think Time : N.A Minimum Instruction Time : 0

Correct Marks : 5 Wrong Marks : 1

Question Key Details :

Key	Value
Comprehension	MCQ

सहिताकरण की विधि होनी चाहिये

1. समझने में सरल, रहस्यमय तथा आकड़े प्रक्रिया
2. ऐसी जो कि खातों के समूहीकरण की ओर ले जाये
3. चिन्ह पर एक अभिज्ञान
4. परिसंपत्तियों हेतु रक्षोपाय

Options :

485584151325. 1

485584151326. 2

485584151327. 3

485584151328. 4

Question Number : 118 Question Id : 48558437833 Question Type : MCQ Option Shuffling : No Is Question Mandatory : No Calculator : None
Response Time : N.A Think Time : N.A Minimum Instruction Time : 0

Correct Marks : 5 Wrong Marks : 1

Question Key Details :

Key	Value
Comprehension	MCQ

Which mathematical operator is represented by an asterik (*) ?

1. Multiplication
2. Subtraction
3. Addition
4. Exponentiation

Options :

485584151329. 1

485584151330. 2

485584151331. 3

485584151332. 4

Question Number : 118 Question Id : 48558437833 Question Type : MCQ Option Shuffling : No Is Question Mandatory : No Calculator : None
Response Time : N.A Think Time : N.A Minimum Instruction Time : 0

Correct Marks : 5 Wrong Marks : 1

Question Key Details :

Key	Value
Comprehension	MCQ

कौन - सा गणितीय प्रचालक एस्ट्रीक (*) द्वारा प्रस्तुत होता है -

1. गुणन
2. घटाना
3. जोड़ना
4. घातांकी

Options :

485584151329. 1
485584151330. 2
485584151331. 3
485584151332. 4

Question Number : 119 Question Id : 48558437834 Question Type : MCQ Option Shuffling : No Is Question Mandatory : No Calculator : None Response Time : N.A Think Time : N.A Minimum Instruction Time : 0

Correct Marks : 5 Wrong Marks : 1

Question Key Details :

Key	Value
Comprehension	MCQ

In what cell is the Rate for PMT function where = PMT (C8, C9, C10, C11, C12)?

1. C8
2. C10
3. C9
4. C12

Options :

485584151333. 1
485584151334. 2
485584151335. 3
485584151336. 4

Question Number : 119 Question Id : 48558437834 Question Type : MCQ Option Shuffling : No Is Question Mandatory : No Calculator : None Response Time : N.A Think Time : N.A Minimum Instruction Time : 0

Correct Marks : 5 Wrong Marks : 1

Question Key Details :

Key	Value
Comprehension	MCQ

PMT कार्य के लिए दर किस पंक्ति में है, जहाँ = PMT (C8, C9, C10, C11, C12)?

1. C8
2. C10
3. C9
4. C12

Options :

485584151333. 1
485584151334. 2
485584151335. 3
485584151336. 4

Question Number : 120 Question Id : 48558437835 Question Type : MCQ Option Shuffling : No Is Question Mandatory : No Calculator : None Response Time : N.A Think Time : N.A Minimum Instruction Time : 0

Correct Marks : 5 Wrong Marks : 1

Question Key Details :

Key	Value
Comprehension	MCQ

The term 'record' as applied to a database table mean:

1. Name of the table
2. Horizontal row of the table
3. Size of the table
4. Vertical column of the table

Options :

- 485584151337. 1
- 485584151338. 2
- 485584151339. 3
- 485584151340. 4

Question Number : 120 Question Id : 48558437835 Question Type : MCQ Option Shuffling : No Is Question Mandatory : No Calculator : None Response Time : N.A Think Time : N.A Minimum Instruction Time : 0

Correct Marks : 5 Wrong Marks : 1

Question Key Details :

Key	Value
Comprehension	MCQ

एक आंकड़े आधारित सारणी में 'record' शब्द का तात्पर्य है :-

1. सारणी का नाम
2. सारणी की क्षैतिज पंक्ति
3. सारणी का आकार
4. सारणी का लम्बवत स्तंभ

Options :

- 485584151337. 1
- 485584151338. 2
- 485584151339. 3
- 485584151340. 4

Question Number : 121 Question Id : 48558437836 Question Type : MCQ Option Shuffling : No Is Question Mandatory : No Calculator : None Response Time : N.A Think Time : N.A Minimum Instruction Time : 0

Correct Marks : 5 Wrong Marks : 1

Question Key Details :

Key	Value
Comprehension	MCQ

Data Ltd. purchased assets of the book value ₹ 4,00,000 and took over the liability of ₹ 50,000 from Sona Ltd. It was agreed that purchase consideration will be settled by cheque of ₹ 1,00,000 and by issue of ₹ 2,00,000, 10% debentures at premium of 25%. The Amount of goodwill/capital reserve will be

1. ₹ 30,000 Capital reserve
2. ₹ 30,000 goodwill
3. ₹ 50,000 Capital reserve
4. There will not be any Goodwill or Capital Reserve

Options :

485584151341. 1
485584151342. 2
485584151343. 3
485584151344. 4

Question Number : 121 Question Id : 48558437836 Question Type : MCQ Option Shuffling : No Is Question Mandatory : No Calculator : None
Response Time : N.A Think Time : N.A Minimum Instruction Time : 0

Correct Marks : 5 Wrong Marks : 1

Question Key Details :

Key	Value
Comprehension	MCQ

डाटा लि. ने सोना लि. से ₹ 4,00,000 पुस्तक मूल्य की परिसंपत्तियां ₹ 50,000 के दायित्व लिए। यह सहमति हुई कि क्रय प्रतिफल का भुगतान ₹1,00,000 चेक द्वारा तथा ₹ 2,00,000 के 10% ऋणपत्रों का 25% प्रीमियम पर निर्गमन द्वारा किया जाएगा। ख्याति / पूंजीगत संचय की राशि होगी -

1. ₹ 30,000 पूंजीगत संचय
2. ₹ 30,000 ख्याति
3. ₹ 50,000 पूंजीगत संचय
4. ख्याति एवं पूंजी संचय नहीं होगा

Options :

485584151341. 1
485584151342. 2
485584151343. 3
485584151344. 4

Question Number : 122 Question Id : 48558437837 Question Type : MCQ Option Shuffling : No Is Question Mandatory : No Calculator : None
Response Time : N.A Think Time : N.A Minimum Instruction Time : 0

Correct Marks : 5 Wrong Marks : 1

Question Key Details :

Key	Value
Comprehension	MCQ

Arrange the following in the context of Issue of shares

- A. Making calls on shares
- B. Reissue of forfeited shares
- C. Calls in Arrear
- D. Transferring profit on reissue of shares to Capital Reserve
- E. Forfeiture of shares

Choose the correct answer from the options given below:

- 1. A, B, C, D, E
- 2. A, C, E, B, D
- 3. A, C, D, E, B
- 4. A, B, D, E, C

Options :

- 485584151345. 1
- 485584151346. 2
- 485584151347. 3
- 485584151348. 4

Question Number : 122 Question Id : 48558437837 Question Type : MCQ Option Shuffling : No Is Question Mandatory : No Calculator : None Response Time : N.A Think Time : N.A Minimum Instruction Time : 0

Correct Marks : 5 Wrong Marks : 1

Question Key Details :

Key	Value
Comprehension	MCQ

निम्नलिखित को अंशों के निर्गमन के सन्दर्भ में व्यवस्थित कीजिए

- A. अंशों पर याचना मांगना
- B. हरणित अंशों का पुनः निर्गमन
- C. बकाया मांग
- D. पुनः निर्गमन पर लाभ को पूँजीगत संचय में हस्तांतरण
- E. अंशों का हरण

नीचे दिये गए विकल्पों से सही उत्तर का चयन कीजिए :

- 1. A, B, C, D, E
- 2. A, C, E, B, D
- 3. A, C, D, E, B
- 4. A, B, D, E, C

Options :

- 485584151345. 1
- 485584151346. 2
- 485584151347. 3
- 485584151348. 4

Question Number : 123 Question Id : 48558437838 Question Type : MCQ Option Shuffling : No Is Question Mandatory : No Calculator : None Response Time : N.A Think Time : N.A Minimum Instruction Time : 0

Correct Marks : 5 Wrong Marks : 1

Question Key Details :

Key	Value
Comprehension	MCQ

Company issues 10,000, 12% debentures of ₹ 100 each at par, redeemable at premium of 5% after 5 years. At the time of allotment; journal Entry will be:

1. Bank A/c Dr 10,50,000
 To Debenture application and Allotment A/c 10,00,000
 To Premium on Redemption an Debentures A/c 50,000
2. Bank A/c Dr 10,12,000
 To debenture Application and allotment A/c 10,12,000
3. Bank A/c Dr 10,70,000
 To Debenture Application and Allotment A/c 10,70,000
4. Debenture Application and Allotment A/c Dr 10,00,000
 Loss of Issue of Debenture Dr 50,000
 To 12% Debenture A/c 10,00,000
 To premium on Redemption of Debentures A/c 50,000

Options :

485584151349. 1
485584151350. 2
485584151351. 3
485584151352. 4

Question Number : 123 Question Id : 48558437838 Question Type : MCQ Option Shuffling : No Is Question Mandatory : No Calculator : None Response Time : N.A Think Time : N.A Minimum Instruction Time : 0

Correct Marks : 5 Wrong Marks : 1

Question Key Details :

Key	Value
Comprehension	MCQ

10,000, 12% ऋणपत्रों ₹100 प्रत्येक वाले का सममूल्य पर निर्गमन लेकिन 5% प्रीमियम पर 5 वर्ष बाद शोधनीय :

ऋणपत्रों के आबंटन के समय रोजनामचा प्रविष्टि होगी -

1. बैंक खाता ऋणों 10,50,000
 ऋणपत्र अ आवेदन तथा आबंटन खाते से 10,00,000
 प्रीमियम पर शोधन से 50,000
2. बैंक खाता ऋणों 10,12,000
 ऋणपत्र आवेदन तथा आबंटन खाते से 10,12,000
3. बैंक खाता ऋणों 10,70,000
 ऋणपत्र आवेदन तथा आबंटन खाते से 10,70,000
4. ऋणपत्र आवेदन तथा आबंटन खाता ऋणों 10,00,000
 ऋणपत्र के निर्गमन पर हानि खाता ऋणों 50,000
 12% ऋणपत्र खाते से 10,00,000
 प्रीमियम पर शोधन खाते से 50,000

Options :

485584151349. 1
485584151350. 2
485584151351. 3
485584151352. 4

Question Number : 124 Question Id : 48558437839 Question Type : MCQ Option Shuffling : No Is Question Mandatory : No Calculator : None
Response Time : N.A Think Time : N.A Minimum Instruction Time : 0

Correct Marks : 5 Wrong Marks : 1

Question Key Details :

Key	Value
Comprehension	MCQ

Debentures can be redeemed in following ways except:-

1. Payments in instalments
2. Purchase in open market
3. Payment in lump sum
4. Payment in fixed asset

Options :

- 485584151353. 1
- 485584151354. 2
- 485584151355. 3
- 485584151356. 4

Question Number : 124 Question Id : 48558437839 Question Type : MCQ Option Shuffling : No Is Question Mandatory : No Calculator : None
Response Time : N.A Think Time : N.A Minimum Instruction Time : 0

Correct Marks : 5 Wrong Marks : 1

Question Key Details :

Key	Value
Comprehension	MCQ

ऋणपत्रों का शोधन निम्नलिखित विधियों द्वारा किया जा सकता है सिवाय :-

1. किस्तों में भुगतान
2. खुले बाजार में क्रय
3. एकमुश्त भुगतान
4. स्थायी परिसंपत्तियों में भुगतान

Options :

- 485584151353. 1
- 485584151354. 2
- 485584151355. 3
- 485584151356. 4

Question Number : 125 Question Id : 48558437840 Question Type : MCQ Option Shuffling : No Is Question Mandatory : No Calculator : None
Response Time : N.A Think Time : N.A Minimum Instruction Time : 0

Correct Marks : 5 Wrong Marks : 1

Question Key Details :

Key	Value
Comprehension	MCQ

Royan Ltd. issued 1,00,000 9% debentures of ₹100 each to public. Issue was subscribed. The amount will be shown as:

1. Operating Activity
2. Investing Activity
3. Financing Activity
4. Cash and Cash equivalent

Options :

485584151357. 1
485584151358. 2
485584151359. 3
485584151360. 4

Question Number : 125 Question Id : 48558437840 Question Type : MCQ Option Shuffling : No Is Question Mandatory : No Calculator : None Response Time : N.A Think Time : N.A Minimum Instruction Time : 0

Correct Marks : 5 Wrong Marks : 1

Question Key Details :

Key	Value
Comprehension	MCQ

रोयान लि. ने 1,00,000, 9% ऋणपत्रों, ₹100 प्रत्येक का निर्गमन किया। निर्गमन अभिदत्त था। प्राप्त हुई राशि को _____ के रूप में दर्शाया जायेगा।

1. प्रचालन क्रियाकलाप
2. निवेश क्रियाकलाप
3. वित्तीय क्रियाकलाप
4. रोकड़ तथा रोकड़ तुल्यांक

Options :

485584151357. 1
485584151358. 2
485584151359. 3
485584151360. 4

Question Number : 126 Question Id : 48558437841 Question Type : MCQ Option Shuffling : No Is Question Mandatory : No Calculator : None Response Time : N.A Think Time : N.A Minimum Instruction Time : 0

Correct Marks : 5 Wrong Marks : 1

Question Key Details :

Key	Value
Comprehension	MCQ

Given below are the extracts of information from Financial statements of Zucca Ltd.

Particular	2020-21	2021-22
Equities and Liabilities		
Share holder's funds		
Reserve and Surplus (Statement of Profit and Loss)	4,00,000	7,00,000
Current liabilities :- Dividend Payable		40,000

Calculate amount of Net Profit after tax, if an interim dividend of ₹ 2,00,000 was declared and paid.

1. ₹ 3,00,000
2. ₹ 5,00,000
3. ₹ 4,60,000
4. ₹ 5,40,000

Options :

485584151361. 1
485584151362. 2
485584151363. 3
485584151364. 4

Question Number : 126 Question Id : 48558437841 Question Type : MCQ Option Shuffling : No Is Question Mandatory : No Calculator : None Response Time : N.A Think Time : N.A Minimum Instruction Time : 0

Correct Marks : 5 Wrong Marks : 1

Question Key Details :

Key	Value
Comprehension	MCQ

जुबका लि. के वित्तीय विवरणों से नीचे सूचनाएँ दी गई हैं :-

विवरण	2020-21	2021-22
समता एवं देयताएं		
1. अंश धारक की निधि		
आरक्षितियाँ तथा अधिशेष (लाभ व हानि विवरण)	4,00,000	7,00,000
2. चातू दायित्व देय लाभांश		40,000

कर पश्चात् शुद्ध लाभ की गणना कीजिये, यदि ₹ 2,00,000 के लाभांश की घोषणा तथा भुगतान किया गया।

1. ₹ 3,00,000
2. ₹ 5,00,000
3. ₹ 4,60,000
4. ₹ 5,40,000

Options :

485584151361. 1
485584151362. 2
485584151363. 3
485584151364. 4

Question Number : 127 Question Id : 48558437842 Question Type : MCQ Option Shuffling : No Is Question Mandatory : No Calculator : None
Response Time : N.A Think Time : N.A Minimum Instruction Time : 0

Correct Marks : 5 Wrong Marks : 1

Question Key Details :

Key	Value
Comprehension	MCQ

The old profit sharing ratio among A, B and C were 2:2:1. The new Profit sharing ratio after B's retirement is 3:2. The gaining ratio is-

1. 2:1
2. 3:2
3. 1:1
4. 2:3

Options :

- 485584151365. 1
- 485584151366. 2
- 485584151367. 3
- 485584151368. 4

Question Number : 127 Question Id : 48558437842 Question Type : MCQ Option Shuffling : No Is Question Mandatory : No Calculator : None
Response Time : N.A Think Time : N.A Minimum Instruction Time : 0

Correct Marks : 5 Wrong Marks : 1

Question Key Details :

Key	Value
Comprehension	MCQ

A, B तथा C के मध्य पुराना लाभ विभाजन अनुपात 2:2:1 था। B की सेवानिवृत्ति पश्चात् नया लाभ विभाजन अनुपात 3:2 है। अधिलाभ अनुपात है :-

1. 2:1
2. 3:2
3. 1:1
4. 2:3

Options :

- 485584151365. 1
- 485584151366. 2
- 485584151367. 3
- 485584151368. 4

Question Number : 128 Question Id : 48558437843 Question Type : MCQ Option Shuffling : No Is Question Mandatory : No Calculator : None
Response Time : N.A Think Time : N.A Minimum Instruction Time : 0

Correct Marks : 5 Wrong Marks : 1

Question Key Details :

Key	Value
Comprehension	MCQ

P, Q and R are Partners sharing Profits and losses equally. R retires and Goodwill is appearing in the books at ₹ 30,000. Goodwill of the firm is valued at ₹ 1,50,000. Calculate the net amount to be credited to R's Capital A/c for adjustment of goodwill:

1. ₹ 60,000
2. ₹ 50,000
3. ₹ 40,000
4. ₹ 10,000

Options :

485584151369. 1
485584151370. 2
485584151371. 3
485584151372. 4

Question Number : 128 Question Id : 48558437843 Question Type : MCQ Option Shuffling : No Is Question Mandatory : No Calculator : None Response Time : N.A Think Time : N.A Minimum Instruction Time : 0

Correct Marks : 5 Wrong Marks : 1

Question Key Details :

Key	Value
Comprehension	MCQ

P, Q तथा R साझेदार है जो लाभ तथा हानि का विभाजन समान अनुपात में करते है। R सेवानिवृति होता है तथा पुस्तकों में ₹ 30,000 ख्याति विद्यमान है। फर्म की ख्याति ₹ 1,50,000 .मूल्यांकित हुई ख्याति समावोजन हेतु R के पूंजी खाते में धनी होने वाली शुद्ध राशि की गणना कीजिये।

1. ₹ 60,000
2. ₹ 50,000
3. ₹ 40,000
4. ₹ 10,000

Options :

485584151369. 1
485584151370. 2
485584151371. 3
485584151372. 4

Question Number : 129 Question Id : 48558437844 Question Type : MCQ Option Shuffling : No Is Question Mandatory : No Calculator : None Response Time : N.A Think Time : N.A Minimum Instruction Time : 0

Correct Marks : 5 Wrong Marks : 1

Question Key Details :

Key	Value
Comprehension	MCQ

In case of dissolution of firm, Assets shall be applied in the order of -

- A. Paying loan from Partners.
- B. Paying secured debts of the firm
- C. Paying Partners Capital in proportion
- D. Paying unsecured debts of the firm
- E. The residue shall be divided among the partners in their Profit sharing ratio.

Choose the correct answer from the options given below:

- 1. A, B, E, C, D
- 2. B, D, A, C, E
- 3. B, E, D, A, C
- 4. E, D, A, B, C

Options :

- 485584151373. 1
- 485584151374. 2
- 485584151375. 3
- 485584151376. 4

Question Number : 129 Question Id : 48558437844 Question Type : MCQ Option Shuffling : No Is Question Mandatory : No Calculator : None Response Time : N.A Think Time : N.A Minimum Instruction Time : 0

Correct Marks : 5 Wrong Marks : 1

Question Key Details :

Key	Value
Comprehension	MCQ

फर्म का विघटन की दशा में, परिसंपत्तियों के उपयोग का क्रम होगा -

- A. साझेदारों से ऋण का भुगतान
- B. फर्म के सुरक्षित ऋणों का भुगतान
- C. साझेदारों की पूंजी का अनुपातिक भुगतान
- D. फर्म के असुरक्षित ऋणों का भुगतान
- E. शेष राशि साझेदारों में उनके लाभ विभाजन अनुपात में विभाजित होगी।

नीचे दिये गये विकल्पों से सही उत्तर का चयन कीजिये :

- 1. A, B, E, C, D
- 2. B, D, A, C, E
- 3. B, E, D, A, C
- 4. E, D, A, B, C

Options :

- 485584151373. 1
- 485584151374. 2
- 485584151375. 3
- 485584151376. 4

Question Number : 130 Question Id : 48558437845 Question Type : MCQ Option Shuffling : No Is Question Mandatory : No Calculator : None Response Time : N.A Think Time : N.A Minimum Instruction Time : 0

Correct Marks : 5 Wrong Marks : 1

Question Key Details :

Key	Value
Comprehension	MCQ

Identify the correct sequence to be followed at the time of Death of Partner:

- A. Calculation of gaining Ratio.
- B. Treatment of goodwill
- C. Calculation of new Profit Ratio
- D. Calculation of Amount transferred to Decreased Partner's Executor
- E. Preparation of deceased Partner Capital Account

Choose the correct answer from the options given below:

- 1. C, D, E, A, B
- 2. A, D, B, C, E
- 3. C, A, B, E, D
- 4. E, A, B, C, D

Options :

- 485584151377. 1
- 485584151378. 2
- 485584151379. 3
- 485584151380. 4

Question Number : 130 Question Id : 48558437845 Question Type : MCQ Option Shuffling : No Is Question Mandatory : No Calculator : None Response Time : N.A Think Time : N.A Minimum Instruction Time : 0

Correct Marks : 5 Wrong Marks : 1

Question Key Details :

Key	Value
Comprehension	MCQ

साझेदारों की मृत्यु के समय अनुसरण किये जाने वाले सही क्रम को पहचानिये

- A. अधिलाभ अनुपात की गणना
- B. खाति की गणना
- C. नये लाभ - विभाजन अनुपात का निर्धारण
- D. मृत साझेदार के उत्तराधिकारी को हस्तांतरित राशि की गणना करना
- E. मृत साझेदार का पूंजी खाता तैयार करना

नीचे दिये गये विकल्पों में से सही उत्तर का चयन कीजिये :

- 1. C, D, E, A, B
- 2. A, D, B, C, E
- 3. C, A, B, E, D
- 4. E, A, B, C, D

Options :

- 485584151377. 1
- 485584151378. 2
- 485584151379. 3
- 485584151380. 4

Question Number : 131 Question Id : 48558437846 Question Type : MCQ Option Shuffling : No Is Question Mandatory : No Calculator : None Response Time : N.A Think Time : N.A Minimum Instruction Time : 0

Correct Marks : 5 Wrong Marks : 1

Question Key Details :

Key	Value
Comprehension	MCQ

_____ is a measure of liquidity which excludes _____.

- A. Liquid Ratio
- B. Current Ratio
- C. Debt equity Ratio
- D. Inventory
- E. Debtor

Choose the correct answer from the options given below:

1. A and D only
2. B and E only
3. C and D only
4. D and E only

Options :

- 485584151381. 1
- 485584151382. 2
- 485584151383. 3
- 485584151384. 4

Question Number : 131 Question Id : 48558437846 Question Type : MCQ Option Shuffling : No Is Question Mandatory : No Calculator : None Response Time : N.A Think Time : N.A Minimum Instruction Time : 0

Correct Marks : 5 Wrong Marks : 1

Question Key Details :

Key	Value
Comprehension	MCQ

_____ द्रवता का एक मापक है जो _____ को बाहिष्कृत करता है।

- A. तरलता अनुपात
- B. चालू अनुपात
- C. ऋण-समता अनुपात
- D. रहतिया
- E. देनदार

नीचे दिये गये विकल्पों से सही उत्तर का चयन कीजिये :

1. केवल A और D
2. केवल B और E
3. केवल C और D
4. केवल D और E

Options :

- 485584151381. 1
- 485584151382. 2
- 485584151383. 3
- 485584151384. 4

Question Number : 132 Question Id : 48558437847 Question Type : MCQ Option Shuffling : No Is Question Mandatory : No Calculator : None Response Time : N.A Think Time : N.A Minimum Instruction Time : 0

Correct Marks : 5 Wrong Marks : 1

Question Key Details :

Key	Value
Comprehension	MCQ

As per AS 3 (Revised) while preparing cash flow statement the correct sequence to be followed is

- A. Calculation of Cash flow from Financing Activities
- B. Calculation of cash flow from Operating Activities
- C. Calculation of cash flow from Investing Activities
- D. Calculation of net changes in cash and cash equivalents during the year
- E. Calculation of net profit before tax and extra-ordinary items

Choose the correct answer from the options given below:

- 1. A, C, B, D, E
- 2. E, B, C, A, D
- 3. E, B, A, C, D
- 4. D, C, B, A, E

Options :

- 485584151385. 1
- 485584151386. 2
- 485584151387. 3
- 485584151388. 4

Question Number : 132 Question Id : 48558437847 Question Type : MCQ Option Shuffling : No Is Question Mandatory : No Calculator : None Response Time : N.A Think Time : N.A Minimum Instruction Time : 0

Correct Marks : 5 Wrong Marks : 1

Question Key Details :

Key	Value
Comprehension	MCQ

लेखांकन मानक (AS)-3 के अनुसार रोकड़ प्रवाह विवरण तैयार करते समय अनुसरण किया जाने वाला आवश्यक क्रम है

- A. वित्तीय क्रियाकलापों से रोकड़ प्रवाह की गणना करना
- B. प्रचालन क्रियाकलापों से रोकड़ प्रवाह की गणना करना
- C. निवेश क्रियाकलापों से रोकड़ प्रवाह की गणना करना
- D. वर्ष के दौरान रोकड़ तथा रोकड़ तुल्यांक में शुद्ध परिवर्तन की गणना करना
- E. कराधान तथा असाधारण मदों पूर्व शुद्ध लाभ की गणना करना

नीचे दिये गये विकल्पों से सही उत्तर का चयन कीजिये:

- 1. A, C, B, D, E
- 2. E, B, C, A, D
- 3. E, B, A, C, D
- 4. D, C, B, A, E

Options :

- 485584151385. 1
- 485584151386. 2
- 485584151387. 3
- 485584151388. 4

Question Number : 133 Question Id : 48558437848 Question Type : MCQ Option Shuffling : No Is Question Mandatory : No Calculator : None Response Time : N.A Think Time : N.A Minimum Instruction Time : 0

Correct Marks : 5 Wrong Marks : 1

Question Key Details :

Key	Value
Comprehension	MCQ

The sum due to the retiring Partners includes:-

- A. Share of remaining partners goodwill.
- B. Credit balance of his capital Account.
- C. His share of accumulated profits.
- D. His share of Goodwill.
- E. Cash brought in by remaining partners for adjustment of capital.

Choose the correct answer from the options given below:

- 1. A, C and E only
- 2. B, C and D only
- 3. A, B and E only
- 4. A, B and C only

Options :

- 485584151389. 1
- 485584151390. 2
- 485584151391. 3
- 485584151392. 4

Question Number : 133 Question Id : 48558437848 Question Type : MCQ Option Shuffling : No Is Question Mandatory : No Calculator : None Response Time : N.A Think Time : N.A Minimum Instruction Time : 0

Correct Marks : 5 Wrong Marks : 1

Question Key Details :

Key	Value
Comprehension	MCQ

सेवानिवृत्त साझेदार को कुल देय में सम्मिलित है:-

- A. शेष साझेदारों की ख्याति का भाग
- B. उसके पूंजी खाते का धनी शेष
- C. संचित लाभों का उसका भाग
- D. उसकी ख्याति का भाग
- E. शेष साझेदारों द्वारा पूंजी समायोजन हेतु लाया गया रोकड़

नीचे दिये गये विकल्पों से सही उत्तर का चयन कीजिये

- 1. केवल A, C और E
- 2. केवल B, C और D
- 3. केवल A, B और E
- 4. केवल A, B और C

Options :

- 485584151389. 1
- 485584151390. 2
- 485584151391. 3
- 485584151392. 4

Question Number : 134 Question Id : 48558437849 Question Type : MCQ Option Shuffling : No Is Question Mandatory : No Calculator : None Response Time : N.A Think Time : N.A Minimum Instruction Time : 0

Correct Marks : 5 Wrong Marks : 1

Question Key Details :

Key	Value
Comprehension	MCQ

Non current Assets includes -

- A. Capital work -in- Progress
- B. Deferred tax Assets (net)
- C. Loose tools
- D. Railway slidings
- E. Inventory

Choose the correct answer from the options given below:

- 1. A, B and C only
- 2. A, C and E only
- 3. A, B and D only
- 4. B, C and E only

Options :

- 485584151393. 1
- 485584151394. 2
- 485584151395. 3
- 485584151396. 4

Question Number : 134 Question Id : 48558437849 Question Type : MCQ Option Shuffling : No Is Question Mandatory : No Calculator : None Response Time : N.A Think Time : N.A Minimum Instruction Time : 0

Correct Marks : 5 Wrong Marks : 1

Question Key Details :

Key	Value
Comprehension	MCQ

गेर - चालू परिसंपत्तियों में सम्मिलित हैं -

- A. चालू पूंजी संकर्म
- B. आस्थगित कर परिसंपत्तिपां (शुद्ध)
- C. कले पुर्जे
- D. रेलवे पट्टी
- E. रहतिया

नीचे दिये गये विकल्पों से सही उत्तर का चयन कीजिये:

- 1. केवल A, B और C
- 2. केवल A, C और E
- 3. केवल A, B और D
- 4. केवल B, C और E

Options :

- 485584151393. 1
- 485584151394. 2
- 485584151395. 3
- 485584151396. 4

Question Number : 135 Question Id : 48558437850 Question Type : MCQ Option Shuffling : No Is Question Mandatory : No Calculator : None Response Time : N.A Think Time : N.A Minimum Instruction Time : 0

Correct Marks : 5 Wrong Marks : 1

Question Key Details :

Key	Value
Comprehension	MCQ

Debt Redemption Reserve is created by:-

- A. Service Sector Company
- B. Manufacturing Company
- C. Banking Company
- D. Automobile Company
- E. NFBFC's registered with RBI

Choose the correct answer from the options given below:

- 1. A, C and E only
- 2. A, B and D only
- 3. A, B and E only
- 4. B, C and D only

Options :

- 485584151397. 1
- 485584151398. 2
- 485584151399. 3
- 485584151400. 4

Question Number : 135 Question Id : 48558437850 Question Type : MCQ Option Shuffling : No Is Question Mandatory : No Calculator : None Response Time : N.A Think Time : N.A Minimum Instruction Time : 0

Correct Marks : 5 Wrong Marks : 1

Question Key Details :

Key	Value
Comprehension	MCQ

ऋणपत्र शोधन संचय _____ के द्वारा सृजित किया जाता है ?

- A. सेवा क्षेत्र कंपनी
- B. उत्पादक कंपनी
- C. बैंकिंग कंपनी
- D. ऑटोमोबाइल कंपनी
- E. RBI के साथ NFBFC's पंजीकृत

नीचे दिये गये विकल्पों से सही उत्तर का चयन कीजिये:

- 1. केवल A, C और E
- 2. केवल A, B और D
- 3. केवल A, B और E
- 4. केवल B, C और D

Options :

- 485584151397. 1
- 485584151398. 2
- 485584151399. 3
- 485584151400. 4

Question Number : 136 Question Id : 48558437851 Question Type : MCQ Option Shuffling : No Is Question Mandatory : No Calculator : None Response Time : N.A Think Time : N.A Minimum Instruction Time : 0

Correct Marks : 5 Wrong Marks : 1

Question Key Details :

Key	Value
Comprehension	MCQ

Reconstitution of Partnership means:

- A. Change in Profit sharing Ratio among existing partners
- B. Dissolution of Partnership firm
- C. Retirement of Partner
- D. Admission of Partner
- E. Death of Partner

Choose the correct answer from the options given below:

- 1. A, B, D and E only
- 2. A, B, C and D only
- 3. A, C, D and E only
- 4. B, C, D and E only

Options :

- 485584151401. 1
- 485584151402. 2
- 485584151403. 3
- 485584151404. 4

Question Number : 136 Question Id : 48558437851 Question Type : MCQ Option Shuffling : No Is Question Mandatory : No Calculator : None Response Time : N.A Think Time : N.A Minimum Instruction Time : 0

Correct Marks : 5 Wrong Marks : 1

Question Key Details :

Key	Value
Comprehension	MCQ

साझेदारी का पुनर्गठन का तात्पर्य है -

- A. वर्तमान साझेदारों के लाभ विभाजन अनुपात में परिवर्तन
- B. साझेदारी फर्म का विघटन
- C. साझेदार की सेवानिवृत्ति
- D. साझेदार का प्रवेश
- E. साझेदार की मृत्यु

नीचे दिये गये विकल्पों से सही उत्तर का चयन कीजिये।

- 1. केवल A, B, D और E
- 2. केवल A, B, C और D
- 3. केवल A, C, D और E
- 4. केवल B, C, D और E

Options :

- 485584151401. 1
- 485584151402. 2
- 485584151403. 3
- 485584151404. 4

Question Number : 137 Question Id : 48558437852 Question Type : MCQ Option Shuffling : No Is Question Mandatory : No Calculator : None Response Time : N.A Think Time : N.A Minimum Instruction Time : 0

Correct Marks : 5 Wrong Marks : 1

Question Key Details :

Key	Value
Comprehension	MCQ

Match List I with List II

LIST I		LIST II	
A.	Liquidity Ratio	I.	Proprietary Ratio
B.	Solvency Ratio	II.	Trade Receivable turnover Ratio
C.	Activity Ratio	III.	Operating Ratio
D.	Profitability Ratio	IV.	Current Ratio

Choose the correct answer from the options given below:

1. A-I, B-IV, C-III, D-II
2. A-III, B-IV, C-I, D-II
3. A-IV, B-I, C-II, D-III
4. A-IV, B-II, C-I, D-III

Options :

485584151405. 1
485584151406. 2
485584151407. 3
485584151408. 4

Question Number : 137 Question Id : 48558437852 Question Type : MCQ Option Shuffling : No Is Question Mandatory : No Calculator : None Response Time : N.A Think Time : N.A Minimum Instruction Time : 0

Correct Marks : 5 Wrong Marks : 1

Question Key Details :

Key	Value
Comprehension	MCQ

सूची I का सूची II से मिलान कीजिए

सूची I		सूची II	
A.	द्रवता अनुपात	I.	स्वामित्व अनुपात
B.	ऋण शोधन क्षमता अनुपात	II.	व्यापार प्राप्त आयत अनुपात
C.	सक्रियता अनुपात	III.	प्रचालन अनुपात
D.	ताभ्रमदता अनुपात	IV.	वालू अनुपात

निम्नलिखित विकल्पों में से सही उत्तर का चयन कीजिए :

1. A-I, B-IV, C-III, D-II
2. A-III, B-IV, C-I, D-II
3. A-IV, B-I, C-II, D-III
4. A-IV, B-II, C-I, D-III

Options :

485584151405. 1
485584151406. 2
485584151407. 3
485584151408. 4

Question Number : 138 Question Id : 48558437853 Question Type : MCQ Option Shuffling : No Is Question Mandatory : No Calculator : None Response Time : N.A Think Time : N.A Minimum Instruction Time : 0

Correct Marks : 5 Wrong Marks : 1

Question Key Details :

Key	Value
Comprehension	MCQ

Match List I with List II

LIST I		LIST II	
Formula		Term/Item	
A	Current liabilities + working capital	I	Capital Employed
B	Shareholders Fund + Debts	II	Operating Cost
C	Operating Expenses + Cost of Revenue from operation	III	Current Assets
D	Net Profit + Non Operating Expenses (-) Non-Operating Income	IV	Operating Profit

Choose the correct answer from the options given below:

1. A-I, B-II, C-III, D-IV
2. A-IV, B-III, C-II, D-I
3. A-III, B-I, C-II, D-IV
4. A-I, B-III, C-IV, D-II

Options :

485584151409. 1
485584151410. 2
485584151411. 3
485584151412. 4

Question Number : 138 Question Id : 48558437853 Question Type : MCQ Option Shuffling : No Is Question Mandatory : No Calculator : None Response Time : N.A Think Time : N.A Minimum Instruction Time : 0

Correct Marks : 5 Wrong Marks : 1

Question Key Details :

Key	Value
Comprehension	MCQ

सूची I का सूची II से मिलान कीजिए

सूची I (सूत्र)		सूची II शब्द/मद	
A	चालू दायित्व + कार्यशील पूंजी	I	निवेशित पूंजी
B	अंशधारक की निधि + ऋण	II	प्रचालन लागत
C	प्रचालन व्यय + प्रचालन से आगम की लागत	III	चालू परिसंपत्तियाँ
D	शुद्ध लाभ + गैर - प्रचालन व्यय - गैर प्रचालन आय	IV	प्रचालन लाभ

निम्नलिखित विकल्पों में से सही उत्तर का चयन कीजिए :

1. A-I, B-II, C-III, D-IV
2. A-IV, B-III, C-II, D-I
3. A-III, B-I, C-II, D-IV
4. A-I, B-III, C-IV, D-II

Options :

485584151409. 1
485584151410. 2
485584151411. 3
485584151412. 4

Question Number : 139 Question Id : 48558437854 Question Type : MCQ Option Shuffling : No Is Question Mandatory : No Calculator : None Response Time : N.A Think Time : N.A Minimum Instruction Time : 0

Correct Marks : 5 Wrong Marks : 1

Question Key Details :

Key	Value
Comprehension	MCQ

Match List I with List II

LIST I		LIST II	
A.	Operating Activities	I.	Depreciation
B.	Investing Activities	II.	Cash Paid to Supplier
C.	Financing Activities	III.	Sale of Land
D.	Non Cash item	IV.	Increase in Share Capital

Choose the correct answer from the options given below:

1. A-II, B-III, C-I, D-IV
2. A-I, B-III, C-IV, D-II
3. A-I, B-II, C-IV, D-III
4. A-II, B-III, C-IV, D-I

Options :

485584151413. 1
485584151414. 2
485584151415. 3
485584151416. 4

Question Number : 139 Question Id : 48558437854 Question Type : MCQ Option Shuffling : No Is Question Mandatory : No Calculator : None Response Time : N.A Think Time : N.A Minimum Instruction Time : 0

Correct Marks : 5 Wrong Marks : 1

Question Key Details :

Key	Value
Comprehension	MCQ

सूची I का सूची II से मिलान कीजिए

सूची I		सूची II	
A.	प्रचालन क्रियाकलाप	I.	ह्रास
B.	निवेश क्रियाकलाप	II.	पूर्तिकर्ताओं को नकद भुगतान
C.	वित्तीय क्रियाकलाप	III.	भूमि का विक्रय
D.	गैर-रोकड़ मद	IV.	अंश पूंजी में वृद्धि

निम्नलिखित विकल्पों में से सही उत्तर का चयन कीजिए :

1. A-II, B-III, C-I, D-IV
2. A-I, B-III, C-IV, D-II
3. A-I, B-II, C-IV, D-III
4. A-II, B-III, C-IV, D-I

Options :

485584151413. 1
485584151414. 2
485584151415. 3
485584151416. 4

Question Number : 140 Question Id : 48558437855 Question Type : MCQ Option Shuffling : No Is Question Mandatory : No Calculator : None Response Time : N.A Think Time : N.A Minimum Instruction Time : 0

Correct Marks : 5 Wrong Marks : 1

Question Key Details :

Key	Value
Comprehension	MCQ

Match List I with List II

LIST I		LIST II	
A.	Super Profit	I.	$\frac{\text{Actual Average Profit} - \text{Normal Profit}}{100}$
B.	Normal Profit	II.	$\text{Super Profit} \times \frac{\text{Normal rate of return}}{100}$
C.	Goodwill	III.	Total Assets - Outside Liabilities
D.	Capital Employed	IV.	$\frac{\text{Capital Employed} \times \text{Normal Rate of Return}}{100}$

Choose the correct answer from the options given below:

1. A-I, B-II, C-IV, D-III
2. A-IV, B-II, C-I, D-III
3. A-I, B-IV, C-II, D-III
4. A-I, B-IV, C-III, D-II

Options :

485584151417. 1
485584151418. 2
485584151419. 3
485584151420. 4

Question Number : 140 Question Id : 48558437855 Question Type : MCQ Option Shuffling : No Is Question Mandatory : No Calculator : None Response Time : N.A Think Time : N.A Minimum Instruction Time : 0

Correct Marks : 5 Wrong Marks : 1

Question Key Details :

Key	Value
Comprehension	MCQ

सूची - I का सूची - II से मिलान कीजिये

सूची I		सूची II	
A.	अधिलाभ	I.	वास्तविक औसत लाभ - सामान्य लाभ
B.	सामान्य लाभ	II.	$\text{अधिलाभ} \times \frac{100}{\text{सामान्य प्रत्याय दर}}$
C.	ख़्बाति	III.	कुल परिसंपत्तियाँ - बाह्यदायित्व
D.	निवेशित पूंजी	IV.	$\frac{\text{निवेशित पूंजी} \times \text{सामान्य प्रत्याय दर}}{100}$

नीचे दिये गये विकल्पों से सही उत्तर का चयन कीजिये: निवेशित पूंजी

1. A-I, B-II, C-IV, D-III
2. A-IV, B-II, C-I, D-III
3. A-I, B-IV, C-II, D-III
4. A-I, B-IV, C-III, D-II

Options :

485584151417. 1
485584151418. 2
485584151419. 3
485584151420. 4

Sub-Section Number :

Sub-Section Id :

Question Shuffling Allowed :

Is Section Default? :

2

4855842901

No

null

Question Number : 141 Question Id : 48558437856 Question Type : MCQ Option Shuffling : No Is Question Mandatory : No Calculator : None Response Time : N.A Think Time : N.A Minimum Instruction Time : 0

Correct Marks : 5 Wrong Marks : 1

Question Key Details :

Key	Value
Comprehension	Comp1

Read the following case study and answer Q 41-45.

Surya Ltd issued 10,000 equity shares of ₹ 50 each at a premium of 10%. The company received application for 13,000 shares. The amount was payable as: on application 30%, on allotment 30% plus Premium; on 1st call 10% and Balance on final call. Allotment was made pro-rata for all applicants. Excess application money received is to be adjusted on allotment. Company received all money called except from Maman, an applicant, of 300 shares. Maman Paid only application money. His shares were forfeited and 70% of the forfeited shares were reissued as fully paid for ₹ 40 each.

What amount is received by company in securities Premium Reserve Account

1. ₹ 50,000
2. ₹ 48,050
3. ₹ 58,500
4. ₹ 48,500

Options :

485584151421. 1
485584151422. 2
485584151423. 3
485584151424. 4

Question Number : 141 Question Id : 48558437856 Question Type : MCQ Option Shuffling : No Is Question Mandatory : No Calculator : None Response Time : N.A Think Time : N.A Minimum Instruction Time : 0

Correct Marks : 5 Wrong Marks : 1

Question Key Details :

Key	Value
Comprehension	Comp1

सूर्या लि. ने ₹50 प्रत्येक वाले 10,000 समता अंशों का 10% प्रीमियम पर निर्गमन किया। कंपनी को 13,000 अंशों के लिये आवेदन प्राप्त हुये। राशि निम्न प्रकार देय था:- 30% आवेदन पर, 30% तथा प्रीमियम आवंटन पर, 10% प्रथम याचना पर तथा शेष अंतिम याचना पर। सभी आवेदकों को आनुपातिक आवंटन किया गया। अतिरिक्त आवेदन राशि का आवंटन पर समायोजन करना है। कंपनी को सभी याचित राशि प्राप्त हुई सिवाय मनन 300 अंशों के आवेदक के। मनन ने केवल आवेदन राशि का भुगतान किया उसके अंशों का हरण कर लिया गया। हरण किये गये अंशों में से 70% अंशों का ₹ 40 प्रत्येक पूर्ण भुगतानित रूप में पुनः निर्गमन कर दिया गया।

उपरोक्त पद्यांश से प्रश्न 41 से 45 के उत्तर दीजिये।

प्रतिभूति प्रीमियम खाते में कंपनी द्वारा कितनी राशि प्राप्त हुई?

1. ₹ 50,000
2. ₹ 48,050
3. ₹ 58,500
4. ₹ 48,500

Options :

485584151421. 1
485584151422. 2
485584151423. 3
485584151424. 4

Question Number : 142 Question Id : 48558437857 Question Type : MCQ Option Shuffling : No Is Question Mandatory : No Calculator : None
Response Time : N.A Think Time : N.A Minimum Instruction Time : 0

Correct Marks : 5 Wrong Marks : 1

Question Key Details :

Key	Value
Comprehension	Comp1

Read the following case study and answer Q 41-45.

Surya Ltd issued 10,000 equity shares of ₹ 50 each at a premium of 10%. The company received application for 13,000 shares. The amount was payable as: on application 30%, on allotment 30% plus Premium; on 1st call 10% and Balance on final call. Allotment was made pro-rata for all applicants. Excess application money received is to be adjusted on allotment. Company received all money called except from Maman, an applicant, of 390 shares. Maman Paid only application money. His shares were forfeited and 70% of the forfeited shares were reissued as fully paid for ₹ 40 each.

Calculate the amount received by Surya limited on allotment

1. ₹ 2,00,000
2. ₹ 1,96,350
3. ₹ 1,50,350
4. ₹ 193,650

Options :

485584151425. 1
485584151426. 2
485584151427. 3
485584151428. 4

Question Number : 142 Question Id : 48558437857 Question Type : MCQ Option Shuffling : No Is Question Mandatory : No Calculator : None
Response Time : N.A Think Time : N.A Minimum Instruction Time : 0

Correct Marks : 5 Wrong Marks : 1

Question Key Details :

Key	Value
Comprehension	Comp1

सूर्या लि. ने ₹50 प्रत्येक वाले 10,000 समता अंशों का 10% प्रीमियम पर निर्गमन किया। कंपनी को 13,000 अंशों के लिये आवेदन प्राप्त हुये। राशि निम्न प्रकार देय था:- 30% आवेदन पर, 30% तथा प्रीमियम आवंटन पर, 10% प्रथम याचना पर तथा शेष अंतिम याचना पर। सभी आवेदकों को आनुपातिक आवंटन किया गया। अतिरिक्त आवेदन राशि का आवंटन पर समायोजन करना है। कंपनी को सभी याचित राशि प्राप्त हुई सिवाय मनन 390 अंशों के आवेदक के। मनन ने केवल आवेदन राशि का भुगतान किया उसके अंशों का हरण कर लिया गया। हरण किये गये अंशों में से 70% अंशों का ₹ 40 प्रत्येक पूर्ण भुगतानित रूप में पुनः निर्गमन कर दिया गया।

उपरोक्त पद्यांश से प्रश्न 41 से 45 के उत्तर दीजिये।

सूर्या लि. द्वारा आवंटन पर प्राप्त राशि की गणना कीजिये

1. ₹ 2,00,000
2. ₹ 1,96,350
3. ₹ 1,50,350
4. ₹ 193,650

Options :

485584151425. 1
485584151426. 2
485584151427. 3
485584151428. 4

Question Number : 143 Question Id : 48558437858 Question Type : MCQ Option Shuffling : No Is Question Mandatory : No Calculator : None Response Time : N.A Think Time : N.A Minimum Instruction Time : 0

Correct Marks : 5 Wrong Marks : 1

Question Key Details :

Key	Value
Comprehension	Compl

Read the following case study and answer Q 41-45.

Surya Ltd issued 10,000 equity shares of ₹ 50 each at a premium of 10%. The company received application for 13,000 shares. The amount was payable as: on application 30%, on allotment 30% plus Premium; on 1st call 10% and Balance on final call. Allotment was made pro-rata for all applicants. Excess application money received is to be adjusted on allotment. Company received all money called except from Manan, an applicant, of 390 shares. Manan Paid only application money. His shares were forfeited and 70% of the forfeited shares were reissued as fully paid for ₹ 40 each.

Balance of Securities Premium can be utilised for

1. Buying of Asset
2. Conversion of Debentures
3. Buy Back of Shares
4. Repayment of Debts

Options :

485584151429. 1
485584151430. 2
485584151431. 3
485584151432. 4

Question Number : 143 Question Id : 48558437858 Question Type : MCQ Option Shuffling : No Is Question Mandatory : No Calculator : None Response Time : N.A Think Time : N.A Minimum Instruction Time : 0

Correct Marks : 5 Wrong Marks : 1

Question Key Details :

Key	Value
Comprehension	Compl

सूर्य लि. ने ₹50 प्रत्येक वाले 10,000 समता अंशों का 10% प्रीमियम पर निर्गमन किया। कंपनी को 13,000 अंशों के लिये आवेदन प्राप्त हुये। राशि निम्न प्रकार देय था:- 30% आवेदन पर, 30% तथा प्रीमियम आवंटन पर, 10% प्रथम याचना पर तथा शेष अंतिम याचना पर। सभी आवेदकों को आनुपातिक आवंटन किया गया। अतिरिक्त आवेदन राशि का आवंटन पर समायोजन करना है। कंपनी को सभी याचित राशि प्राप्त हुई सिवाय मनन 390 अंशों के आवेदक के। मनन ने केवल आवेदन राशि का भुगतान किया उसके अंशों का हरण कर लिया गया। हरण किये गये अंशों में से 70% अंशों का ₹ 40 प्रत्येक पूर्ण भुगतानित रूप में पुनः निर्गमन कर दिया गया।

उपरोक्त पद्यांश से प्रश्न 41 से 45 के उत्तर दीजिये।

प्रतिभूति प्रीमियम के शेष का प्रयोग _____ हेतु किया जा सकता है ?

1. परिसंपत्तियों के क्रय
2. ऋणपत्रों के परिवर्तन
3. अंशों के क्रय वापसी
4. ऋणों का पुनः भुगतान

Options :

485584151429. 1
485584151430. 2
485584151431. 3
485584151432. 4

Question Number : 144 Question Id : 48558437859 Question Type : MCQ Option Shuffling : No Is Question Mandatory : No Calculator : None Response Time : N.A Think Time : N.A Minimum Instruction Time : 0

Correct Marks : 5 Wrong Marks : 1

Question Key Details :

Key	Value
Comprehension	Comp1

Read the following case study and answer Q 41-45.

Surya Ltd issued 10,000 equity shares of ₹ 50 each at a premium of 10%. The company received application for 13,000 shares. The amount was payable as: on application 30%, on allotment 30% plus Premium; on 1st call 10% and Balance on final call. Allotment was made pro-rata for all applicants. Excess application money received is to be adjusted on allotment. Company received all money called except from Maman, an applicant, of 390 shares. Maman Paid only application money. His shares were forfeited and 70% of the forfeited shares were reissued as fully paid for ₹ 40 each.

Allotment Due per share will be:

1. ₹ 15
2. ₹ 10
3. ₹ 35
4. ₹ 20

Options :

485584151433. 1
485584151434. 2
485584151435. 3
485584151436. 4

Question Number : 144 Question Id : 48558437859 Question Type : MCQ Option Shuffling : No Is Question Mandatory : No Calculator : None Response Time : N.A Think Time : N.A Minimum Instruction Time : 0

Correct Marks : 5 Wrong Marks : 1

Question Key Details :

Key	Value
Comprehension	Comp1

सूर्या लि. ने ₹50 प्रत्येक वाले 10,000 समता अंशों का 10% प्रीमियम पर निर्गमन किया। कंपनी को 13,000 अंशों के लिये आवेदन प्राप्त हुये। राशि निम्न प्रकार देय था:- 30% आवेदन पर, 30% तथा प्रीमियम आवंटन पर, 10% प्रथम याचना पर तथा शेष अंतिम याचना पर। सभी आवेदकों को आनुपातिक आवंटन किया गया। अतिरिक्त आवेदन राशि का आवंटन पर समायोजन करना है। कंपनी को सभी याचित राशि प्राप्त हुई सिवाय मनन 390 अंशों के आवेदक के। मनन ने केवल आवेदन राशि का भुगतान किया उसके अंशों का हरण कर लिया गया। हरण किये गये अंशों में से 70% अंशों का ₹ 40 प्रत्येक पूर्ण भुगतानित रूप में पुनः निर्गमन कर दिया गया।

उपरोक्त पद्यांश से प्रश्न 41 से 45 के उत्तर दीजिये।

प्रत्येक अंश प्रति आवंटन देय होगा -

1. ₹ 15
2. ₹ 10
3. ₹ 35
4. ₹ 20

Options :

485584151433. 1
485584151434. 2
485584151435. 3
485584151436. 4

Question Number : 145 Question Id : 48558437860 Question Type : MCQ Option Shuffling : No Is Question Mandatory : No Calculator : None Response Time : N.A Think Time : N.A Minimum Instruction Time : 0

Correct Marks : 5 Wrong Marks : 1

Question Key Details :

Key	Value
Comprehension	Comp1

Read the following case study and answer Q 41-45.

Surya Ltd issued 10,000 equity shares of ₹ 50 each at a premium of 10%. The company received application for 13,000 shares. The amount was payable as: on application 30%, on allotment 30% plus Premium; on 1st call 10% and Balance on final call. Allotment was made pro-rata for all applicants. Excess application money received is to be adjusted on allotment. Company received all money called except from Maman, an applicant, of 390 shares. Maman Paid only application money. His shares were forfeited and 70% of the forfeited shares were reissued as fully paid for ₹ 40 each.

Gain on Re-issue of the shares will be transferred to

1. Share Capital
2. Securities Premium Reserve
3. Capital Reserve
4. General Reserve

Options :

485584151437. 1

485584151438. 2
485584151439. 3
485584151440. 4

Question Number : 145 Question Id : 48558437860 Question Type : MCQ Option Shuffling : No Is Question Mandatory : No Calculator : None
Response Time : N.A Think Time : N.A Minimum Instruction Time : 0

Correct Marks : 5 Wrong Marks : 1

Question Key Details :

Key	Value
Comprehension	Comp1

सूर्या लि. ने ₹50 प्रत्येक वाले 10,000 समता अंशों का 10% प्रीमियम पर निर्गमन किया। कंपनी को 13,000 अंशों के लिये आवेदन प्राप्त हुये। राशि निम्न प्रकार देय था:- 30% आवेदन पर, 30% तथा प्रीमियम आवंटन पर, 10% प्रथम याचना पर तथा शेष अंतिम याचना पर। सभी आवेदकों को आनुपातिक आवंटन किया गया। अतिरिक्त आवेदन राशि का आवंटन पर समायोजन करना है। कंपनी को सभी याचित राशि प्राप्त हुई सिवाय मन्मन 350 अंशों के आवेदक के। मन्मन ने केवल आवेदन राशि का भुगतान किया उसके अंशों का हरण कर लिया गया। हरण किये गये अंशों में से 70% अंशों का ₹ 40 प्रत्येक पूर्ण भुगतानित रूप में पुनः निर्गमन कर दिया गया।

उपरोक्त पद्यांश से प्रश्न 41 से 45 के उत्तर दीजिये।

अंशों के पुनः निर्गमन पर लाभ _____ में हस्तांतरित होगा

1. अंश पूंजी
2. प्रतिभूति प्रीमियम संचय
3. पूंजीगत संचय
4. सामान्य संचय

Options :

485584151437. 1
485584151438. 2
485584151439. 3
485584151440. 4

Sub-Section Number : 3
Sub-Section Id : 4855842902
Question Shuffling Allowed : No
Is Section Default? : null

Question Number : 146 Question Id : 48558437861 Question Type : MCQ Option Shuffling : No Is Question Mandatory : No Calculator : None
Response Time : N.A Think Time : N.A Minimum Instruction Time : 0

Correct Marks : 5 Wrong Marks : 1

Question Key Details :

Key	Value
Comprehension	Comp2

Read the following information provided by a school and attempt Question 46 – 50

The Trial Balance of a school as on 31.3.2017 is

Debit Balance	Amount (₹)	Credit Balance	Amount (₹)
Building	6,25,000	Admission fees	12,500
Furniture	50,000	Tuition fees received	5,00,000
Library books	1,50,000	Creditors for supplies	15,000
Investment @ 12% (1.4.16)	5,00,000	Rent for the school hall	10,000
Salaries	5,00,000	Miscellaneous receipts	30,000
Stationery	40,000	Legacies (general)	3,50,000
General expenses	18,000	General fund	10,00,000
Sports expenses	15,000	Donation for library books	62,500
Cash at bank	1,00,000	Sale of old furniture	20,000
Cash in hand	2,000		
	20,00,000		20,00,000

Additional Information:

The book value of the furniture sold was ₹ 50,000 on April 1, 2016 was sold for ₹ 20,000.

What amount of Interest on investment will be credited to Income and Expenditure account

1. ₹ 60,000
2. ₹ 30,000
3. ₹ 1,20,000
4. ₹ 50,000

Options :

- 485584151441. 1
- 485584151442. 2
- 485584151443. 3
- 485584151444. 4

Question Number : 146 Question Id : 48558437861 Question Type : MCQ Option Shuffling : No Is Question Mandatory : No Calculator : None Response Time : N.A Think Time : N.A Minimum Instruction Time : 0

Correct Marks : 5 Wrong Marks : 1

Question Key Details :

Key	Value
Comprehension	Comp2

पद्यांश को ध्यानपूर्वक पढ़िये : प्रश्न 46 - 50 के उत्तर दीजिये

एक विद्यालय हेतु नीचे दिये गये तलपट तथा अन्य सूचनाओं से 31-03-2017 को समाप्त होने वाले वर्ष हेतु आय तथा व्यय खाता तथा तुलना पत्र उक्त तिथि को तैयार कीजिये

ऋणी राशि	राशि	धनी शेष	राशि
भवन	6,25,000	प्रवेश शुल्क	12,500
फर्नीचर	50,000	ट्यूशन शुल्क प्राप्त	5,00,000
पुस्तकालय पुस्तक	1,50,000	पूर्ति हेतु लेनदार	15,000
निवेश (12%) 1/4/16	5,00,000	विद्यालय हात हेतु किराया	10,000
खेतन	5,00,000	विविध प्राप्तियाँ	30,000
लेखन सामग्री	40,000	वसीयत (सामान्य)	3,50,000
सामान्य व्यय	18,000	सामान्य निधि	10,00,000
खेत व्यय	15,000	पुस्तकालय की पुस्तको हेतु दान	62,500
बैंकस्थ रोकड़	1,00,000	पुराने फर्नीचर का विक्रय	20,000
हस्तस्थ रोकड़	2,000		
	20,00,000		20,00,000

अतिरिक्त सूचना :

1 अप्रैल 2016 को ₹50000 पुस्तक मूल्य के फर्नीचर का विक्रय ₹ 20000 में किया गया।

आय तथा व्यय खाते में निवेश पर ब्याज की कितनी राशि धनी होगी ?

1. ₹ 60,000
2. ₹ 30,000
3. ₹ 1,20,000
4. ₹ 50,000

Options :

485584151441. 1

485584151442. 2

485584151443. 3

485584151444. 4

Question Number : 147 Question Id : 48558437862 Question Type : MCQ Option Shuffling : No Is Question Mandatory : No Calculator : None Response Time : N.A Think Time : N.A Minimum Instruction Time : 0

Correct Marks : 5 Wrong Marks : 1

Question Key Details :

Key	Value
Comprehension	Comp2

Read the following information provided by a school and attempt Question 46 – 50

The Trial Balance of a school as on 31.3.2017 is

Debit Balance	Amount (₹)	Credit Balance	Amount (₹)
Building	6,25,000	Admission fees	12,500
Furniture	50,000	Tuition fees received	5,00,000
Library books	1,50,000	Creditors for supplies	15,000
Investment @ 12% (1.4.16)	5,00,000	Rent for the school hall	10,000
Salaries	5,00,000	Miscellaneous receipts	30,000
Stationery	40,000	Legacies (general)	3,50,000
General expenses	18,000	General fund	10,00,000
Sports expenses	15,000	Donation for library books	62,500
Cash at bank	1,00,000	Sale of old furniture	20,000
Cash in hand	2,000		
	20,00,000		20,00,000

Additional Information:

The book value of the furniture sold was ₹ 50,000 on April 1, 2016 was sold for ₹ 20,000.

Tuition Fees Received will be _____

1. Shown as liabilities in Balance Sheet
2. Shown as Expense and debited to Income and Expenditure A/c
3. Shown as Income and credited to Income and Expenditure A/c
4. Shown as payments in Receipt and Payment Account

Options :

- 485584151445. 1
- 485584151446. 2
- 485584151447. 3
- 485584151448. 4

Question Number : 147 Question Id : 48558437862 Question Type : MCQ Option Shuffling : No Is Question Mandatory : No Calculator : None Response Time : N.A Think Time : N.A Minimum Instruction Time : 0

Correct Marks : 5 Wrong Marks : 1

Question Key Details :

Key	Value
Comprehension	Comp2

पद्यांश को ध्यानपूर्वक पढ़िये : प्रश्न 46 - 50 के उत्तर दीजिये

एक विद्यालय हेतु नीचे दिये गये तलपट तथा अन्य सूचनाओं से 31-03-2017 को समाप्त होने वाले वर्ष हेतु आय तथा व्यय खाता तथा तुलना पत्र उक्त तिथि को तैयार कीजिये

ऋणी राशि	राशि	धनी शेष	राशि
भवन	6,25,000	प्रवेश शुल्क	12,500
फर्नीचर	50,000	ट्यूशन शुल्क प्राप्त	5,00,000
पुस्तकालय पुस्तक	1,50,000	पूर्ति हेतु लेनदार	15,000
निवेश (12%) 1/4/16	5,00,000	विद्यालय हात हेतु किराया	10,000
खेतन	5,00,000	विविध प्राप्तियाँ	30,000
लेखन सामग्री	40,000	वसीयत (सामान्य)	3,50,000
सामान्य व्यय	18,000	सामान्य निधि	10,00,000
खेत व्यय	15,000	पुस्तकालय की पुस्तकों हेतु दान	62,500
बैंकस्थ रोकड़	1,00,000	पुराने फर्नीचर का विक्रय	20,000
हस्तस्थ रोकड़	2,000		
	20,00,000		20,00,000

अतिरिक्त सूचना :

1 अप्रैल 2016 को ₹50000 पुस्तक मूल्य के फर्नीचर का विक्रय ₹ 20000 में किया गया।

प्राप्त ट्यूशन शुल्क _____ होगा-

1. तुलना पत्र में दायित्व के रूप में प्रदर्शित
2. व्यय के रूप में तथा आय व व्यय खाते में ऋणी प्रदर्शित
3. आय के रूप में तथा आय व व्यय खाते में धनी प्रदर्शित
4. प्राप्ति एवं भुगतान खाते में भुगतान के रूप प्रदर्शित

Options :

485584151445. 1
485584151446. 2
485584151447. 3
485584151448. 4

Question Number : 148 Question Id : 48558437863 Question Type : MCQ Option Shuffling : No Is Question Mandatory : No Calculator : None Response Time : N.A Think Time : N.A Minimum Instruction Time : 0

Correct Marks : 5 Wrong Marks : 1

Question Key Details :

Key	Value
Comprehension	Comp2

Read the following information provided by a school and attempt Question 46 – 50

The Trial Balance of a school as on 31.3.2017 is

Debit Balance	Amount (₹)	Credit Balance	Amount (₹)
Building	6,25,000	Admission fees	12,500
Furniture	50,000	Tuition fees received	5,00,000
Library books	1,50,000	Creditors for supplies	15,000
Investment @ 12% (1.4.16)	5,00,000	Rent for the school hall	10,000
Salaries	5,00,000	Miscellaneous receipts	30,000
Stationery	40,000	Legacies (general)	3,50,000
General expenses	18,000	General fund	10,00,000
Sports expenses	15,000	Donation for library books	62,500
Cash at bank	1,00,000	Sale of old furniture	20,000
Cash in hand	2,000		
	20,00,000		20,00,000

Additional Information:

The book value of the furniture sold was ₹ 50,000 on April 1, 2016 was sold for ₹ 20,000.

General Fund is also known as

1. Restricted Fund
2. Assets Fund
3. Capital Fund
4. Surplus or Deficit

Options :

- 485584151449. 1
- 485584151450. 2
- 485584151451. 3
- 485584151452. 4

Question Number : 148 Question Id : 48558437863 Question Type : MCQ Option Shuffling : No Is Question Mandatory : No Calculator : None Response Time : N.A Think Time : N.A Minimum Instruction Time : 0

Correct Marks : 5 Wrong Marks : 1

Question Key Details :

Key	Value
Comprehension	Comp2

पद्यांश को ध्यानपूर्वक पढ़िये : प्रश्न 46 - 50 के उत्तर दीजिये

एक विद्यालय हेतु नीचे दिये गये तलपट तथा अन्य सूचनाओं से 31-03-2017 को समाप्त होने वाले वर्ष हेतु आय तथा व्यय खाता तथा तुलना पत्र उक्त तिथि को तैयार कीजिये

ऋणी राशि	राशि	धनी शेष	राशि
भवन	6,25,000	प्रवेश शुल्क	12,500
फर्नीचर	50,000	ट्यूशन शुल्क प्राप्त	5,00,000
पुस्तकालय पुस्तक	1,50,000	पूर्ति हेतु लेनदार	15,000
निवेश (12%) 1/4/16	5,00,000	विद्यालय हात हेतु किराया	10,000
खेतन	5,00,000	विविध प्राप्तियाँ	30,000
लेखन सामग्री	40,000	वसीयत (सामान्य)	3,50,000
सामान्य व्यय	18,000	सामान्य निधि	10,00,000
खेत व्यय	15,000	पुस्तकालय की पुस्तकों हेतु दान	62,500
बैंकस्थ रोकड़	1,00,000	पुराने फर्नीचर का विक्रय	20,000
हस्तस्थ रोकड़	2,000		
	20,00,000		20,00,000

अतिरिक्त सूचना :

1 अप्रैल 2016 को ₹50000 पुस्तक मूल्य के फर्नीचर का विक्रय ₹ 20000 में किया गया।

सामान्य निधि इस रूप में भी जाना जाता है -

1. प्रतिबंधित निधि
2. परिसंपत्ति निधि
3. पूँजी निधि
4. अधिलाभ अथवा हानि

Options :

485584151449. 1
485584151450. 2
485584151451. 3
485584151452. 4

Question Number : 149 Question Id : 48558437864 Question Type : MCQ Option Shuffling : No Is Question Mandatory : No Calculator : None Response Time : N.A Think Time : N.A Minimum Instruction Time : 0

Correct Marks : 5 Wrong Marks : 1

Question Key Details :

Key	Value
Comprehension	Comp2

Read the following information provided by a school and attempt Question 46 – 50

The Trial Balance of a school as on 31.3.2017 is

Debit Balance	Amount (₹)	Credit Balance	Amount (₹)
Building	6,25,000	Admission fees	12,500
Furniture	50,000	Tuition fees received	5,00,000
Library books	1,50,000	Creditors for supplies	15,000
Investment @ 12% (1.4.16)	5,00,000	Rent for the school hall	10,000
Salaries	5,00,000	Miscellaneous receipts	30,000
Stationery	40,000	Legacies (general)	3,50,000
General expenses	18,000	General fund	10,00,000
Sports expenses	15,000	Donation for library books	62,500
Cash at bank	1,00,000	Sale of old furniture	20,000
Cash in hand	2,000		
	20,00,000		20,00,000

Additional Information:

The book value of the furniture sold was ₹ 50,000 on April 1, 2016 was sold for ₹ 20,000.

Furniture of Book value ₹ 50,000 was sold for ₹ 20,000. Loss on Sale of Furniture of ₹ 30,000 will be

1. Credited to Receipt and Payment A/c
2. Debited to Receipt and Payment A/c
3. Credited to Income and Expenditure A/c
4. Debited to Income and Expenditure A/c

Options :

- 485584151453. 1
- 485584151454. 2
- 485584151455. 3
- 485584151456. 4

Question Number : 149 Question Id : 48558437864 Question Type : MCQ Option Shuffling : No Is Question Mandatory : No Calculator : None Response Time : N.A Think Time : N.A Minimum Instruction Time : 0

Correct Marks : 5 Wrong Marks : 1

Question Key Details :

Key	Value
Comprehension	Comp2

ऋणांश को ध्यानपूर्वक पढ़िये : प्रश्न 46 - 50 के उत्तर दीजिये

एक विद्यालय हेतु नीचे दिये गये तलपट तथा अन्य सूचनाओं से 31-03-2017 को समाप्त होने वाले वर्ष हेतु आय तथा व्यय खाता तथा तुलना पत्र उक्त तिथि को तैयार कीजिये

ऋणी राशि	राशि	धनी शेष	राशि
भवन	6,25,000	प्रवेश शुल्क	12,500
फर्नीचर	50,000	ट्यूशन शुल्क प्राप्त	5,00,000
पुस्तकालय पुस्तक	1,50,000	पूर्ति हेतु लेनदार	15,000
निवेश (12%) 1/4/16	5,00,000	विद्यालय हात हेतु किराया	10,000
खेतन	5,00,000	विविध प्राप्तियाँ	30,000
लेखन सामग्री	40,000	वसीयत (सामान्य)	3,50,000
सामान्य व्यय	18,000	सामान्य निधि	10,00,000
खेत व्यय	15,000	पुस्तकालय की पुस्तकों हेतु दान	62,500
बैंकस्थ रोकड़	1,00,000	पुराने फर्नीचर का विक्रय	20,000
हस्तस्थ रोकड़	2,000		
	20,00,000		20,00,000

अतिरिक्त सूचना :

1 अप्रैल 2016 को ₹50000 पुस्तक मूल्य के फर्नीचर का विक्रय ₹ 20000 में किया गया।

₹ 50,000 पुस्तक मूल्य के फर्नीचर का ₹ 20,000 में विक्रय किया, फर्नीचर पर ₹ 30,000 की हानि होगी -

1. प्राप्ति तथा भुगतान खाते में धनी
2. प्राप्ति तथा भुगतान खाते में ऋणी
3. आय तथा व्यय खाते में धनी
4. आय एवं व्यय खाते में ऋणी

Options :

485584151453. 1
485584151454. 2
485584151455. 3
485584151456. 4

Question Number : 150 Question Id : 48558437865 Question Type : MCQ Option Shuffling : No Is Question Mandatory : No Calculator : None Response Time : N.A Think Time : N.A Minimum Instruction Time : 0

Correct Marks : 5 Wrong Marks : 1

Question Key Details :

Key	Value
Comprehension	Comp2

Read the following information provided by a school and attempt Question 46 – 50

The Trial Balance of a school as on 31.3.2017 is

Debit Balance	Amount (₹)	Credit Balance	Amount (₹)
Building	6,25,000	Admission fees	12,500
Furniture	50,000	Tuition fees received	5,00,000
Library books	1,50,000	Creditors for supplies	15,000
Investment @ 12% (1.4.16)	5,00,000	Rent for the school hall	10,000
Salaries	5,00,000	Miscellaneous receipts	30,000
Stationery	40,000	Legacies (general)	3,50,000
General expenses	18,000	General fund	10,00,000
Sports expenses	15,000	Donation for library books	62,500
Cash at bank	1,00,000	Sale of old furniture	20,000
Cash in hand	2,000		
	20,00,000		20,00,000

Additional Information:

The book value of the furniture sold was ₹ 50,000 on April 1, 2016 was sold for ₹ 20,000.

Excess of Sports Expenses over Sports Funds will be

1. Debited to Income and Expenditure A/c
2. Credited to Income and Expenditure A/c
3. Shown on Assets side
4. Shown as Negative balance on Liabilities side

Options :

- 485584151457. 1
- 485584151458. 2
- 485584151459. 3
- 485584151460. 4

Question Number : 150 Question Id : 48558437865 Question Type : MCQ Option Shuffling : No Is Question Mandatory : No Calculator : None Response Time : N.A Think Time : N.A Minimum Instruction Time : 0

Correct Marks : 5 Wrong Marks : 1

Question Key Details :

Key	Value
Comprehension	Comp2

पद्यांश को ध्यानपूर्वक पढिये : प्रश्न 46 - 50 के उत्तर दीजिये

एक विद्यालय हेतु नीचे दिये गये तलपट तथा अन्य सूचनाओं से 31-03-2017 को समाप्त होने वाले वर्ष हेतु आय तथा व्यय खाता तथा तुलना पत्र उक्त तिथि को तैयार कीजिये

ऋणी राशि	राशि	धनी शेष	राशि
भवन	6,25,000	प्रवेश शुल्क	12,500
फर्नीचर	50,000	ट्यूशन शुल्क प्राप्त	5,00,000
पुस्तकालय पुस्तक	1,50,000	पूर्ति हेतु लेनदार	15,000
निवेश (12%) 1/4/16	5,00,000	विद्यालय हात हेतु किराया	10,000
खेतन	5,00,000	विविध प्राप्तियाँ	30,000
लेखन सामग्री	40,000	वसीयत (सामान्य)	3,50,000
सामान्य व्यय	18,000	सामान्य निधि	10,00,000
खेल व्यय	15,000	पुस्तकालय की पुस्तको हेतु दान	62,500
बैंकस्थ रोकड़	1,00,000	पुराने फर्नीचर का विक्रय	20,000
हस्तस्थ रोकड़	2,000		
	20,00,000		20,00,000

अतिरिक्त सूचना :

1 अप्रैल 2016 को ₹50000 पुस्तक मूल्य के फर्नीचर का विक्रय ₹ 20000 में किया गया।

खेल निधि पर खेल व्यय का अधिक्य होगा -

1. आय तथा व्यय खाते में ऋणी
2. आय तथा व्यय खाते में धनी
3. परिसंपत्ति पक्ष में दर्शाया जाएगा
4. दायित्व पक्ष में ऋणात्मक शेष के रूप में दर्शाया जायेगा

Options :

485584151457. 1
485584151458. 2
485584151459. 3
485584151460. 4

Agriculture

Group Number :	5
Group Id :	485584886
Group Maximum Duration :	45
Group Minimum Duration :	45
Show Attended Group? :	No
Edit Attended Group? :	No
Break time :	0
Group Marks :	200
Is this Group for Examiner? :	No
Examiner permission :	Cant View
Show Progress Bar? :	No

Agriculture

Section Id :	4855841026
Section Number :	1
Section type :	Online
Mandatory or Optional :	Mandatory
Number of Questions :	50
Number of Questions to be attempted :	40
Section Marks :	200
Enable Mark as Answered Mark for Review and Clear Response :	Yes
Maximum Instruction Time :	0
Sub-Section Number :	1
Sub-Section Id :	4855842903
Question Shuffling Allowed :	Yes
Is Section Default? :	null

Question Number : 151 Question Id : 48558437866 Question Type : MCQ Option Shuffling : No Is Question Mandatory : No Calculator : None Response Time : N.A Think Time : N.A Minimum Instruction Time : 0

Correct Marks : 5 Wrong Marks : 1

Question Key Details :

Key	Value
Comprehension	MCQ

In which method the forecasts are prepared on the assumption that a current situation will behave on the lines of the past analogous situations?

1. Conventional or synoptic method
2. Statistical method
3. Numerical weather prediction techniques
4. Biological method

Options :

485584151461. 1
485584151462. 2
485584151463. 3
485584151464. 4

Question Number : 151 Question Id : 48558437866 Question Type : MCQ Option Shuffling : No Is Question Mandatory : No Calculator : None Response Time : N.A Think Time : N.A Minimum Instruction Time : 0

Correct Marks : 5 Wrong Marks : 1

Question Key Details :

Key	Value
Comprehension	MCQ

किस विधि में इस अनुमान के आधार पर पूर्वानुमान तैयार किये जाते हैं कि वर्तमान स्थिति, पहली अनुरूप स्थिति के अनुसार व्यवहार्य होगी?

1. पारम्परिक अथवा साररूपी विधि
2. सांख्यिकीय विधि
3. संख्यात्मक मौसम पूर्वकथन तकनीक
4. जैविक विधि

Options :

485584151461. 1
485584151462. 2
485584151463. 3
485584151464. 4

Question Number : 152 Question Id : 48558437867 Question Type : MCQ Option Shuffling : No Is Question Mandatory : No Calculator : None
Response Time : N.A Think Time : N.A Minimum Instruction Time : 0

Correct Marks : 5 Wrong Marks : 1

Question Key Details :

Key	Value
Comprehension	MCQ

The maximum amount of water vapour that air could hold at a given temperature is termed as:

1. Relative moisture content
2. Relative humidity
3. Fog
4. Clouds

Options :

485584151465. 1
485584151466. 2
485584151467. 3
485584151468. 4

Question Number : 152 Question Id : 48558437867 Question Type : MCQ Option Shuffling : No Is Question Mandatory : No Calculator : None
Response Time : N.A Think Time : N.A Minimum Instruction Time : 0

Correct Marks : 5 Wrong Marks : 1

Question Key Details :

Key	Value
Comprehension	MCQ

किसी दिए गए तापमान पर हवा द्वारा वाष्प कणों को धारण करने की अधिकतम मात्रा को क्या कहते हैं?

1. सापेक्ष नमी की मात्रा
2. सापेक्ष आर्द्रता
3. कुहासा
4. बादल

Options :

485584151465. 1
485584151466. 2
485584151467. 3
485584151468. 4

Question Number : 153 Question Id : 48558437868 Question Type : MCQ Option Shuffling : No Is Question Mandatory : No Calculator : None
Response Time : N.A Think Time : N.A Minimum Instruction Time : 0

Correct Marks : 5 Wrong Marks : 1

Question Key Details :

Key	Value
Comprehension	MCQ

Transfer of pollen grains from anther to the stigma of a flower present on different plant is known as:

1. Xenogamy
2. Geitonogamy
3. Autogamy
4. Chasmogamy

Options :

485584151469. 1
485584151470. 2
485584151471. 3
485584151472. 4

Question Number : 153 Question Id : 48558437868 Question Type : MCQ Option Shuffling : No Is Question Mandatory : No Calculator : None Response Time : N.A Think Time : N.A Minimum Instruction Time : 0

Correct Marks : 5 Wrong Marks : 1

Question Key Details :

Key	Value
Comprehension	MCQ

किसी पुष्प के पराग कणों का परागकोष से वर्तिकाग्र में किसी अन्य पादप पर विद्यमान पुष्प के वर्तिकाग्र में होने वाले स्थानांतरण को क्या कहते हैं?

1. परनिषेचन
2. सजातपुष्पी परागण
3. स्वक्युम्भन
4. उन्मील परागण

Options :

485584151469. 1
485584151470. 2
485584151471. 3
485584151472. 4

Question Number : 154 Question Id : 48558437869 Question Type : MCQ Option Shuffling : No Is Question Mandatory : No Calculator : None Response Time : N.A Think Time : N.A Minimum Instruction Time : 0

Correct Marks : 5 Wrong Marks : 1

Question Key Details :

Key	Value
Comprehension	MCQ

Molecular scissors are most likely to be related to:

1. Cutting of mitochondria at specific location
2. Cutting of DNA at specific location
3. Cutting of chromosomes
4. Cutting of RNA at specific site

Options :

485584151473. 1
485584151474. 2
485584151475. 3
485584151476. 4

Question Number : 154 Question Id : 48558437869 Question Type : MCQ Option Shuffling : No Is Question Mandatory : No Calculator : None
Response Time : N.A Think Time : N.A Minimum Instruction Time : 0

Correct Marks : 5 Wrong Marks : 1

Question Key Details :

Key	Value
Comprehension	MCQ

आण्डिक कर्तक अधिकतर _____ से संबधित है।

1. विशिष्ट अवस्थिति पर माइकोड्रिया के कर्तन से
2. विशिष्ट अवस्थिति पर गुणसूत्र कर्तन से
3. विशिष्ट अवस्थिति पर डी एन ए कर्तन से
4. विशिष्ट स्थल पर आर एन ए के कर्तन से

Options :

485584151473. 1

485584151474. 2

485584151475. 3

485584151476. 4

Question Number : 155 Question Id : 48558437870 Question Type : MCQ Option Shuffling : No Is Question Mandatory : No Calculator : None
Response Time : N.A Think Time : N.A Minimum Instruction Time : 0

Correct Marks : 5 Wrong Marks : 1

Question Key Details :

Key	Value
Comprehension	MCQ

Choose the correct statement:

- A. ABO blood group is an example of multiple dominance.
- B. Animals that have had their DNA manipulated to possess and express an extra gene are known as mutagenic animals.
- C. During Bt cotton development, specific toxin genes were isolated from *Bacillus thuringiensis*.
- D. Lactic acid bacteria grow in milk and convert it into curd.

Choose the correct answer from the options given below:

1. A and C only
2. C and D only
3. A, B, D only
4. A, B, C only

Options :

485584151477. 1

485584151478. 2

485584151479. 3

485584151480. 4

Question Number : 155 Question Id : 48558437870 Question Type : MCQ Option Shuffling : No Is Question Mandatory : No Calculator : None
Response Time : N.A Think Time : N.A Minimum Instruction Time : 0

Correct Marks : 5 Wrong Marks : 1

Question Key Details :

Key	Value
Comprehension	MCQ

सही कथनों का चयन करें।

- A. ABO रक्त समूह बहु प्रभाविता का एक उदाहरण है।
- B. ऐसे पशु जो डी.एन.ए. का परिचालन एक अधिक जीन को प्राप्त तथा अभिव्यक्त करने के लिए कर चुके हैं उन्हें उत्परिवर्तजनी जीव कहते हैं।
- C. B₁ कपास के विकास के दौरान, विशेष विषाक्त जीनों को बैसिलस थुरींगजिएंसिस से पृथक था।
- D. लैक्टिक अम्ल जीवाणु, दूध में उत्पन्न होकर उसको दही में परिवर्तित कर देते हैं।

नीचे दिए गए विकल्पों में से सही उत्तर का चयन कीजिए।

- 1. केवल A और C
- 2. केवल C और D
- 3. केवल A, B और D
- 4. केवल A, B और C

Options :

- 485584151477. 1
- 485584151478. 2
- 485584151479. 3
- 485584151480. 4

Question Number : 156 Question Id : 48558437871 Question Type : MCQ Option Shuffling : No Is Question Mandatory : No Calculator : None Response Time : N.A Think Time : N.A Minimum Instruction Time : 0

Correct Marks : 5 Wrong Marks : 1

Question Key Details :

Key	Value
Comprehension	MCQ

The unit of inheritance is:

- 1. Gene
- 2. Protein
- 3. Progeny
- 4. Allele

Options :

- 485584151481. 1
- 485584151482. 2
- 485584151483. 3
- 485584151484. 4

Question Number : 156 Question Id : 48558437871 Question Type : MCQ Option Shuffling : No Is Question Mandatory : No Calculator : None Response Time : N.A Think Time : N.A Minimum Instruction Time : 0

Correct Marks : 5 Wrong Marks : 1

Question Key Details :

Key	Value
Comprehension	MCQ

वंशगति की इकाई है :

1. जीन
2. प्रोटीन
3. संतति
4. अलील

Options :

485584151481. 1
485584151482. 2
485584151483. 3
485584151484. 4

Question Number : 157 Question Id : 48558437872 Question Type : MCQ Option Shuffling : No Is Question Mandatory : No Calculator : None Response Time : N.A Think Time : N.A Minimum Instruction Time : 0

Correct Marks : 5 Wrong Marks : 1

Question Key Details :

Key	Value
Comprehension	MCQ

Which of the following differ in RNA and DNA?

1. Purines and Pyrimidines
2. Sugar and Purines
3. Sugar and Pyrimidines
4. Purine and Proteins

Options :

485584151485. 1
485584151486. 2
485584151487. 3
485584151488. 4

Question Number : 157 Question Id : 48558437872 Question Type : MCQ Option Shuffling : No Is Question Mandatory : No Calculator : None Response Time : N.A Think Time : N.A Minimum Instruction Time : 0

Correct Marks : 5 Wrong Marks : 1

Question Key Details :

Key	Value
Comprehension	MCQ

निम्नलिखित में से डी.एन.ए. तथा आर.एन.ए. में क्या भिन्न है?

1. प्यूरीन तथा पिरिमिडिन
2. शर्करा तथा प्यूरीन
3. शर्करा तथा पिरिमिडिन
4. प्यूरीन तथा प्रोटीन

Options :

485584151485. 1
485584151486. 2
485584151487. 3
485584151488. 4

Question Number : 158 Question Id : 48558437873 Question Type : MCQ Option Shuffling : No Is Question Mandatory : No Calculator : None
Response Time : N.A Think Time : N.A Minimum Instruction Time : 0

Correct Marks : 5 Wrong Marks : 1

Question Key Details :

Key	Value
Comprehension	MCQ

Phylloquinone is known as:

1. Vitamin K
2. Vitamin B₁
3. Vitamin B₂
4. Vitamin A

Options :

485584151489. 1

485584151490. 2

485584151491. 3

485584151492. 4

Question Number : 158 Question Id : 48558437873 Question Type : MCQ Option Shuffling : No Is Question Mandatory : No Calculator : None
Response Time : N.A Think Time : N.A Minimum Instruction Time : 0

Correct Marks : 5 Wrong Marks : 1

Question Key Details :

Key	Value
Comprehension	MCQ

फिलोक्विनोन को _____ नाम से जाना जाता है।

1. विटामिन K
2. विटामिन B₁
3. विटामिन B₂
4. विटामिन A

Options :

485584151489. 1

485584151490. 2

485584151491. 3

485584151492. 4

Question Number : 159 Question Id : 48558437874 Question Type : MCQ Option Shuffling : No Is Question Mandatory : No Calculator : None
Response Time : N.A Think Time : N.A Minimum Instruction Time : 0

Correct Marks : 5 Wrong Marks : 1

Question Key Details :

Key	Value
Comprehension	MCQ

Which of the following can be used as bio control agent in the treatment of plant disease?

1. Lactobacillus
2. Trichoderma
3. Chlorella
4. Anabaena

Options :

485584151493. 1
485584151494. 2
485584151495. 3
485584151496. 4

Question Number : 159 Question Id : 48558437874 Question Type : MCQ Option Shuffling : No Is Question Mandatory : No Calculator : None Response Time : N.A Think Time : N.A Minimum Instruction Time : 0

Correct Marks : 5 Wrong Marks : 1

Question Key Details :

Key	Value
Comprehension	MCQ

निम्न में से किसको पादप रोगों के उपचार हेतु एक जैव नियंत्रण कारक की तरह उपयोग में लाया जा सकता है?

1. लैक्टोबैसिलस
2. ट्राइकोडर्मा
3. क्लोरेला
4. एनाबीना

Options :

485584151493. 1
485584151494. 2
485584151495. 3
485584151496. 4

Question Number : 160 Question Id : 48558437875 Question Type : MCQ Option Shuffling : No Is Question Mandatory : No Calculator : None Response Time : N.A Think Time : N.A Minimum Instruction Time : 0

Correct Marks : 5 Wrong Marks : 1

Question Key Details :

Key	Value
Comprehension	MCQ

Which of these pair is a biofertilizers?

1. Azolla and blue green algae
2. Nostoc and Legume
3. Rhizobium and grasses
4. Salmonella and E.coli

Options :

485584151497. 1
485584151498. 2
485584151499. 3
485584151500. 4

Question Number : 160 Question Id : 48558437875 Question Type : MCQ Option Shuffling : No Is Question Mandatory : No Calculator : None
Response Time : N.A Think Time : N.A Minimum Instruction Time : 0

Correct Marks : 5 Wrong Marks : 1

Question Key Details :

Key	Value
Comprehension	MCQ

निम्न में से कौन सा जैव उर्वरकों का युग्म है?

1. अज़ोल्ला तथा नीला हरित शैवाल
2. नॉस्टॉक तथा शिब
3. राइज़ोबियम तथा विभिन्न घासे
4. सैल्मोनेला तथा ई. कोली

Options :

485584151497. 1
485584151498. 2
485584151499. 3
485584151500. 4

Question Number : 161 Question Id : 48558437876 Question Type : MCQ Option Shuffling : No Is Question Mandatory : No Calculator : None
Response Time : N.A Think Time : N.A Minimum Instruction Time : 0

Correct Marks : 5 Wrong Marks : 1

Question Key Details :

Key	Value
Comprehension	MCQ

Which of the following Indian Cattle breeds are milch breeds?

- A. Gir
- B. Kenkatha
- C. Sahiwal
- D. Red Sindhi
- E. Tharparkar

Choose the correct answer from the options given below:

1. A, B, C, E only
2. B, C, D, E only
3. A, C, D, E only
4. A, B, C, D only

Options :

485584151501. 1
485584151502. 2
485584151503. 3
485584151504. 4

Question Number : 161 Question Id : 48558437876 Question Type : MCQ Option Shuffling : No Is Question Mandatory : No Calculator : None
Response Time : N.A Think Time : N.A Minimum Instruction Time : 0

Correct Marks : 5 Wrong Marks : 1

Question Key Details :

Key	Value
Comprehension	MCQ

नीचे दी गई भारतीय पशुओं की कौन सी नस्लें दुधारू नस्लें हैं?

- A. गिर
- B. कैकाथा
- C. सहीवाला
- D. रेड सिंधी
- E. धरपारकर

नीचे दिए गए विकल्पों में से सही उत्तर का चयन कीजिए:

1. केवल A, B, C, E
2. केवल B, C, D, E
3. केवल A, C, D, E
4. केवल A, B, C, D

Options :

- 485584151501. 1
- 485584151502. 2
- 485584151503. 3
- 485584151504. 4

Question Number : 162 Question Id : 48558437877 Question Type : MCQ Option Shuffling : No Is Question Mandatory : No Calculator : None Response Time : N.A Think Time : N.A Minimum Instruction Time : 0

Correct Marks : 5 Wrong Marks : 1

Question Key Details :

Key	Value
Comprehension	MCQ

Bhadwari Buffalo is known for higher:

1. Milk Production
2. Fat content in milk
3. Lactose content in milk
4. Body weight

Options :

- 485584151505. 1
- 485584151506. 2
- 485584151507. 3
- 485584151508. 4

Question Number : 162 Question Id : 48558437877 Question Type : MCQ Option Shuffling : No Is Question Mandatory : No Calculator : None Response Time : N.A Think Time : N.A Minimum Instruction Time : 0

Correct Marks : 5 Wrong Marks : 1

Question Key Details :

Key	Value
Comprehension	MCQ

भदावरी भैस उच्च _____ के लिए जानी जाती है।

1. दुग्ध उत्पादन
2. दूध में वसा की मात्रा
3. दूध में लैक्टोज की मात्रा
4. शरीर का भार

Options :

485584151505. 1
485584151506. 2
485584151507. 3
485584151508. 4

Question Number : 163 Question Id : 48558437878 Question Type : MCQ Option Shuffling : No Is Question Mandatory : No Calculator : None Response Time : N.A Think Time : N.A Minimum Instruction Time : 0

Correct Marks : 5 Wrong Marks : 1

Question Key Details :

Key	Value
Comprehension	MCQ

The 'foot and mouth' disease of cattle is caused by :

1. Bacteria
2. Virus
3. Fungus
4. Actinomyces

Options :

485584151509. 1
485584151510. 2
485584151511. 3
485584151512. 4

Question Number : 163 Question Id : 48558437878 Question Type : MCQ Option Shuffling : No Is Question Mandatory : No Calculator : None Response Time : N.A Think Time : N.A Minimum Instruction Time : 0

Correct Marks : 5 Wrong Marks : 1

Question Key Details :

Key	Value
Comprehension	MCQ

पशुओं में "पैर और मुँह" रोग का कारण कौन सा जीव है?

1. जीवाणु
2. विषाणु
3. कवक
4. एक्टिनोमाइसिटीज

Options :

485584151509. 1
485584151510. 2
485584151511. 3
485584151512. 4

Question Number : 164 Question Id : 48558437879 Question Type : MCQ Option Shuffling : No Is Question Mandatory : No Calculator : None Response Time : N.A Think Time : N.A Minimum Instruction Time : 0

Correct Marks : 5 Wrong Marks : 1

Question Key Details :

Key	Value
Comprehension	MCQ

Match List I with List II

LIST I		LIST II	
A.	Black quarter	I.	<i>Escherichia coli</i>
B.	Anthrax	II.	<i>Clostridium chauvoei</i>
C.	Brucellosis	III.	<i>Bacillus anthracis</i>
D.	Calf scour	IV.	<i>Brucella abortus</i>

Choose the correct answer from the options given below:

1. A-II, B-III, C-IV, D-I
2. A-I, B-II, C-IV, D-III
3. A-III, B-I, C-IV, D-II
4. A-I, B-III, C-IV, D-II

Options :

485584151513. 1
485584151514. 2
485584151515. 3
485584151516. 4

Question Number : 164 Question Id : 48558437879 Question Type : MCQ Option Shuffling : No Is Question Mandatory : No Calculator : None Response Time : N.A Think Time : N.A Minimum Instruction Time : 0

Correct Marks : 5 Wrong Marks : 1

Question Key Details :

Key	Value
Comprehension	MCQ

सूची I के साथ सूची II का मिलान कीजिए।

सूची I रोग		सूची II कारक जीव	
A.	बौक	I.	<i>एस्करीशिया कोली</i>
B.	एन्थ्रक्स	II.	<i>क्लोस्ट्रिडियम चावोई</i>
C.	ब्रूसिलोसिस	III.	<i>बैसिलस एन्थ्रसिस</i>
D.	जघा निर्घर्षण	IV.	<i>ब्रुसेला एबोर्टस</i>

नीचे दिए गए विकल्पों में से सही उत्तर का चयन कीजिए-

1. A-II, B-III, C-IV, D-I
2. A-I, B-II, C-IV, D-III
3. A-III, B-I, C-IV, D-II
4. A-I, B-III, C-IV, D-II

Options :

485584151513. 1
485584151514. 2
485584151515. 3
485584151516. 4

Question Number : 165 Question Id : 48558437880 Question Type : MCQ Option Shuffling : No Is Question Mandatory : No Calculator : None Response Time : N.A Think Time : N.A Minimum Instruction Time : 0

Correct Marks : 5 Wrong Marks : 1

Question Key Details :

Key	Value
Comprehension	MCQ

Stem: Identify the correct statements from the from the following

- A. Zebu cattle mature in 28 to 34 months
- B. Purebred cattle mature in 23 to 26 months.
- C. Majority of cows show heating sign during noon to 6 PM
- D. Foot and mouth disease in cattle is transmitted through contact with infected animal or material contaminated with discharge from lesions

Choose the correct statement from the options given below:

- 1. A, B and C
- 2. A and D
- 3. A, D and C
- 4. C and D

Options :

485584151517. 1

485584151518. 2

485584151519. 3

485584151520. 4

Question Number : 165 Question Id : 48558437880 Question Type : MCQ Option Shuffling : No Is Question Mandatory : No Calculator : None Response Time : N.A Think Time : N.A Minimum Instruction Time : 0

Correct Marks : 5 Wrong Marks : 1

Question Key Details :

Key	Value
Comprehension	MCQ

निम्नलिखित में से सही कथन चुनिए:

- A. ज़ेबू पशु 28 से 34 महीनों में परिपक्व हो जाता है।
- B. शुद्ध नस्ल वाले पशु 23 से 26 महीनों में परिपक्व हो जाते हैं।
- C. दोपहर से सांय 6 PM बजे तक अधिकांश गायें गर्मी दर्शाती हैं।
- D. पशुओं में पैर और मुँह रोग संक्रमित जानवर या किसी विश्व के उत्सर्ज द्वारा संदूषित सामग्री के संपर्क में आने पर संचारित हो जाता है।

नीचे दिए गए विकल्पों में से सही उत्तर का चयन कीजिए।

- 1. केवल A, B और C
- 2. A और D
- 3. केवल A, D और C
- 4. केवल C और D

Options :

485584151517. 1

485584151518. 2

485584151519. 3

485584151520. 4

Question Number : 166 Question Id : 48558437881 Question Type : MCQ Option Shuffling : No Is Question Mandatory : No Calculator : None Response Time : N.A Think Time : N.A Minimum Instruction Time : 0

Correct Marks : 5 Wrong Marks : 1

Question Key Details :

Key	Value
Comprehension	MCQ

Choose the correct statements from the following:

- A. Colostrum contains IgG and Ig from cows immune system which give passive resistance against infection to calves.
- B. Colostrum contains IgG and Ig from cows immune system which give active resistance against infection to calves.
- C. Heifer is a female animal six month of age up to first calving.
- D. Heifer is a female animal from one year of age up to first calving.

Choose the correct answer from the options given below:

- 1. A, C only
- 2. B, C only
- 3. B and D
- 4. A and D only

Options :

- 485584151521. 1
- 485584151522. 2
- 485584151523. 3
- 485584151524. 4

Question Number : 166 Question Id : 48558437881 Question Type : MCQ Option Shuffling : No Is Question Mandatory : No Calculator : None Response Time : N.A Think Time : N.A Minimum Instruction Time : 0

Correct Marks : 5 Wrong Marks : 1

Question Key Details :

Key	Value
Comprehension	MCQ

सही कथन चुनिए।

- A. कोलोस्ट्रम गाय की प्रतिरक्षा प्रणाली से I_{gG} तथा I_g प्राप्त करता है जो बछड़ों को में संक्रमण के प्रति निष्क्रिय प्रतिरोध देता है।
- B. कोलोस्ट्रम गाय की प्रतिरक्षा प्रणाली से I_{gG} तथा I_g प्राप्त करता है जो बछड़ों को संक्रमण के प्रति सक्रिय प्रतिरोध देता है।
- C. छः महीने से प्रथम वत्सजनन तक की आयु के मादा पशु को हाइफर कहते हैं।
- D. एक वर्ष से प्रथम वत्सजनन तक की आयु के मादा पशु को हाइफर कहते हैं।

नीचे दिए गए विकल्पों में से सही उत्तर का चयन कीजिए:

- 1. केवल A और C
- 2. केवल B और C
- 3. B और D
- 4. केवल A और D

Options :

- 485584151521. 1
- 485584151522. 2
- 485584151523. 3
- 485584151524. 4

Question Number : 167 Question Id : 48558437882 Question Type : MCQ Option Shuffling : No Is Question Mandatory : No Calculator : None
Response Time : N.A Think Time : N.A Minimum Instruction Time : 0

Correct Marks : 5 Wrong Marks : 1

Question Key Details :

Key	Value
Comprehension	MCQ

_____ milk is more suitable for preparation of rabri.

1. Buffalo
2. Cow
3. Sheep
4. Goat

Options :

485584151525. 1
485584151526. 2
485584151527. 3
485584151528. 4

Question Number : 167 Question Id : 48558437882 Question Type : MCQ Option Shuffling : No Is Question Mandatory : No Calculator : None
Response Time : N.A Think Time : N.A Minimum Instruction Time : 0

Correct Marks : 5 Wrong Marks : 1

Question Key Details :

Key	Value
Comprehension	MCQ

कौन से जानवर का दूध रबड़ी बनाने के लिए अधिक उपयुक्त है?

1. भैंस
2. गाय
3. भेड़
4. बकरी

Options :

485584151525. 1
485584151526. 2
485584151527. 3
485584151528. 4

Question Number : 168 Question Id : 48558437883 Question Type : MCQ Option Shuffling : No Is Question Mandatory : No Calculator : None
Response Time : N.A Think Time : N.A Minimum Instruction Time : 0

Correct Marks : 5 Wrong Marks : 1

Question Key Details :

Key	Value
Comprehension	MCQ

Which of the following stabilizers are not used in Ice cream?

- A. Gelatin
- B. Guar gum
- C. Sodium alginate
- D. Polyacrylamide gel
- E. Monosodium glutamate

Choose the correct answer from the options given below:

- 1. A and B only
- 2. C and D only
- 3. D and E only
- 4. B and E only

Options :

- 485584151529. 1
- 485584151530. 2
- 485584151531. 3
- 485584151532. 4

Question Number : 168 Question Id : 48558437883 Question Type : MCQ Option Shuffling : No Is Question Mandatory : No Calculator : None Response Time : N.A Think Time : N.A Minimum Instruction Time : 0

Correct Marks : 5 Wrong Marks : 1

Question Key Details :

Key	Value
Comprehension	MCQ

निम्न में से किस स्थायीकारी का उपयोग आइस -क्रीम बनाने के लिए नहीं किया जाता?

- A. जेलेटिन
- B. गुआर गम
- C. सोडियम ऑल्जिनेट
- D. पॉलीएक्रिलामाइड जेल
- E. मोनोसोडियम ग्लूटामेट

नीचे दिए गए विकल्पों में से सही उत्तर का चयन कीजिए-

- 1. केवल A और B
- 2. केवल C और D
- 3. केवल D और E
- 4. केवल B और E

Options :

- 485584151529. 1
- 485584151530. 2
- 485584151531. 3
- 485584151532. 4

Question Number : 169 Question Id : 48558437884 Question Type : MCQ Option Shuffling : No Is Question Mandatory : No Calculator : None Response Time : N.A Think Time : N.A Minimum Instruction Time : 0

Correct Marks : 5 Wrong Marks : 1

Question Key Details :

Key	Value
Comprehension	MCQ

Match List I with List II

LIST I Classification of milk product		LIST II Dairy product	
A.	Concentrated milk product	I.	Ghee
B.	Coagulated milk product	II.	Dahi
C.	Fermented milk product	III.	Paneer
D.	Fat rich milk product	IV.	Basundi

Choose the correct answer from the options given below:

1. A-IV, B-III, C-II, D-I
2. A-I, B-II, C-III, D-IV
3. A-III, B-IV, C-II, D-I
4. A-II, B-III, C-I, D-IV

Options :

485584151533. 1
485584151534. 2
485584151535. 3
485584151536. 4

Question Number : 169 Question Id : 48558437884 Question Type : MCQ Option Shuffling : No Is Question Mandatory : No Calculator : None
Response Time : N.A Think Time : N.A Minimum Instruction Time : 0

Correct Marks : 5 Wrong Marks : 1

Question Key Details :

Key	Value
Comprehension	MCQ

सूची I के साथ सूची II का मिलान कीजिए।

सूची I वर्गीकरण		सूची II डेयरी उत्पाद	
A.	गाढ़े दूध के उत्पाद	I.	घी
B.	जमे हुए दूध के उत्पाद	II.	दही
C.	किण्वित दूध के उत्पाद	III.	फनीर
D.	वसा की प्रचुर मात्रा वाले दूध उत्पाद	IV.	बासुंदी

नीचे दिए गए विकल्पों में से सही उत्तर का चयन कीजिए।

1. A-IV, B-III, C-II, D-I
2. A-I, B-II, C-III, D-IV
3. A-III, B-IV, C-II, D-I
4. A-II, B-III, C-I, D-IV

Options :

485584151533. 1
485584151534. 2
485584151535. 3
485584151536. 4

Question Number : 170 Question Id : 48558437885 Question Type : MCQ Option Shuffling : No Is Question Mandatory : No Calculator : None
Response Time : N.A Think Time : N.A Minimum Instruction Time : 0

Correct Marks : 5 Wrong Marks : 1

Question Key Details :

Key	Value
Comprehension	MCQ

False fruit develops from:

1. Ovary
2. Ovary and Thalamus
3. Thalamus
4. Pollen

Options :

485584151537. 1
485584151538. 2
485584151539. 3
485584151540. 4

Question Number : 170 Question Id : 48558437885 Question Type : MCQ Option Shuffling : No Is Question Mandatory : No Calculator : None Response Time : N.A Think Time : N.A Minimum Instruction Time : 0

Correct Marks : 5 Wrong Marks : 1

Question Key Details :

Key	Value
Comprehension	MCQ

कृत्रिम फल किससे विकसित होता है?

1. अंडाशय
2. पुष्पासन
3. अंडाशय तथा पुष्पासन
4. पराग

Options :

485584151537. 1
485584151538. 2
485584151539. 3
485584151540. 4

Question Number : 171 Question Id : 48558437886 Question Type : MCQ Option Shuffling : No Is Question Mandatory : No Calculator : None Response Time : N.A Think Time : N.A Minimum Instruction Time : 0

Correct Marks : 5 Wrong Marks : 1

Question Key Details :

Key	Value
Comprehension	MCQ

Which growth hormone remains least active in plants during optimum temperature?

1. Gibberellic acid
2. Abscisic acid
3. Auxins
4. Jasmonic acid

Options :

485584151541. 1
485584151542. 2
485584151543. 3
485584151544. 4

Question Number : 171 Question Id : 48558437886 Question Type : MCQ Option Shuffling : No Is Question Mandatory : No Calculator : None
Response Time : N.A Think Time : N.A Minimum Instruction Time : 0

Correct Marks : 5 Wrong Marks : 1

Question Key Details :

Key	Value
Comprehension	MCQ

अनुकूलतम तापमान पर पादपों में कौन सा वृद्धि हार्मोन सबसे कम सक्रिय होता है?

1. जिबेरलिक अम्ल
2. एब्सिसिक अम्ल
3. ऑक्सिन
4. जैस्मोनिक अम्ल

Options :

485584151541. 1
485584151542. 2
485584151543. 3
485584151544. 4

Question Number : 172 Question Id : 48558437887 Question Type : MCQ Option Shuffling : No Is Question Mandatory : No Calculator : None
Response Time : N.A Think Time : N.A Minimum Instruction Time : 0

Correct Marks : 5 Wrong Marks : 1

Question Key Details :

Key	Value
Comprehension	MCQ

Calcium is a _____ nutrient.

1. Primary
2. Secondary
3. Micro
4. Trace

Options :

485584151545. 1
485584151546. 2
485584151547. 3
485584151548. 4

Question Number : 172 Question Id : 48558437887 Question Type : MCQ Option Shuffling : No Is Question Mandatory : No Calculator : None
Response Time : N.A Think Time : N.A Minimum Instruction Time : 0

Correct Marks : 5 Wrong Marks : 1

Question Key Details :

Key	Value
Comprehension	MCQ

कैल्शियम एक _____ पोषक तत्व है।

1. प्राथमिक
2. द्वितीयक
3. सूक्ष्म
4. लेश

Options :

485584151545. 1
485584151546. 2
485584151547. 3
485584151548. 4

Question Number : 173 Question Id : 48558437888 Question Type : MCQ Option Shuffling : No Is Question Mandatory : No Calculator : None Response Time : N.A Think Time : N.A Minimum Instruction Time : 0

Correct Marks : 5 Wrong Marks : 1

Question Key Details :

Key	Value
Comprehension	MCQ

Which of the following soils is dominated by cracking clay?

1. Alluvial soil
2. Red soil
3. Black soil
4. Desert soil

Options :

485584151549. 1
485584151550. 2
485584151551. 3
485584151552. 4

Question Number : 173 Question Id : 48558437888 Question Type : MCQ Option Shuffling : No Is Question Mandatory : No Calculator : None Response Time : N.A Think Time : N.A Minimum Instruction Time : 0

Correct Marks : 5 Wrong Marks : 1

Question Key Details :

Key	Value
Comprehension	MCQ

निम्न में से कौन सी मृदा में चटकी हुई चिकनी मिट्टी की प्रभाविता होती है?

1. जलोढ़ मृदा
2. लाल मृदा
3. काली मृदा
4. रेगिस्तान की मृदा

Options :

485584151549. 1
485584151550. 2
485584151551. 3
485584151552. 4

Question Number : 174 Question Id : 48558437889 Question Type : MCQ Option Shuffling : No Is Question Mandatory : No Calculator : None
Response Time : N.A Think Time : N.A Minimum Instruction Time : 0

Correct Marks : 5 Wrong Marks : 1

Question Key Details :

Key	Value
Comprehension	MCQ

The capacity of a soil to supply sufficient quantities and proportions of essential plant nutrients required for optimal growth of specified plants as governed by the chemical, physical, and biological attributes of soil is called:

1. Soil function
2. Soil productivity
3. Soil fertility
4. Soil sickness

Options :

- 485584151553. 1
- 485584151554. 2
- 485584151555. 3
- 485584151556. 4

Question Number : 174 Question Id : 48558437889 Question Type : MCQ Option Shuffling : No Is Question Mandatory : No Calculator : None
Response Time : N.A Think Time : N.A Minimum Instruction Time : 0

Correct Marks : 5 Wrong Marks : 1

Question Key Details :

Key	Value
Comprehension	MCQ

विशिष्ट पादपों की अधिकतम वृद्धि के लिए, मृदा के रासायनिक भौतिक तथा जैविक गुणों द्वारा संचालित, पादपों में आवश्यक पोषक तत्वों की पर्याप्त मात्रा तथा अनुपात में आपूर्ति करने की मृदा की क्षमता को क्या कहते हैं?

1. मृदा का कार्य
2. मृदा की उत्पादकता
3. मृदा की उर्वरता
4. मृदा की बीमारी

Options :

- 485584151553. 1
- 485584151554. 2
- 485584151555. 3
- 485584151556. 4

Question Number : 175 Question Id : 48558437890 Question Type : MCQ Option Shuffling : No Is Question Mandatory : No Calculator : None
Response Time : N.A Think Time : N.A Minimum Instruction Time : 0

Correct Marks : 5 Wrong Marks : 1

Question Key Details :

Key	Value
Comprehension	MCQ

Soil moisture is measured by:

1. Psychrometer
2. Stelometer
3. Tensiometer
4. Hygrometer

Options :

- 485584151557. 1
- 485584151558. 2
- 485584151559. 3
- 485584151560. 4

Question Number : 175 Question Id : 48558437890 Question Type : MCQ Option Shuffling : No Is Question Mandatory : No Calculator : None Response Time : N.A Think Time : N.A Minimum Instruction Time : 0

Correct Marks : 5 Wrong Marks : 1

Question Key Details :

Key	Value
Comprehension	MCQ

मृदा में नमी को _____ द्वारा मापा जाता है।

1. साइक्रोमीटर
2. स्टेलोमीटर
3. पृष्ठतनावमापी
4. आर्द्रतामापी

Options :

- 485584151557. 1
- 485584151558. 2
- 485584151559. 3
- 485584151560. 4

Question Number : 176 Question Id : 48558437891 Question Type : MCQ Option Shuffling : No Is Question Mandatory : No Calculator : None Response Time : N.A Think Time : N.A Minimum Instruction Time : 0

Correct Marks : 5 Wrong Marks : 1

Question Key Details :

Key	Value
Comprehension	MCQ

Emitters are the main components of _____ system.

1. Sub surface irrigation
2. Surface irrigation
3. Drip irrigation
4. Sprinkler irrigation

Options :

- 485584151561. 1
- 485584151562. 2
- 485584151563. 3
- 485584151564. 4

Question Number : 176 Question Id : 48558437891 Question Type : MCQ Option Shuffling : No Is Question Mandatory : No Calculator : None
Response Time : N.A Think Time : N.A Minimum Instruction Time : 0

Correct Marks : 5 Wrong Marks : 1

Question Key Details :

Key	Value
Comprehension	MCQ

उत्सर्जक _____ प्रणाली के मुख्य घटक होते हैं।

1. अधः पृष्ठीय सिंचाई
2. पृष्ठीय सिंचाई
3. टपकन (बूँद) सिंचाई
4. सेक्टर सिंचाई

Options :

- 485584151561. 1
- 485584151562. 2
- 485584151563. 3
- 485584151564. 4

Question Number : 177 Question Id : 48558437892 Question Type : MCQ Option Shuffling : No Is Question Mandatory : No Calculator : None
Response Time : N.A Think Time : N.A Minimum Instruction Time : 0

Correct Marks : 5 Wrong Marks : 1

Question Key Details :

Key	Value
Comprehension	MCQ

Which of the following is/are not the criteria for scheduling irrigation.

- A. Soil water depletion
- B. Plant indices
- C. Physiological stages
- D. Check basin

Choose the correct answer from the options given below:

1. A and B only
2. C and D only
3. A only
4. D only

Options :

- 485584151565. 1
- 485584151566. 2
- 485584151567. 3
- 485584151568. 4

Question Number : 177 Question Id : 48558437892 Question Type : MCQ Option Shuffling : No Is Question Mandatory : No Calculator : None
Response Time : N.A Think Time : N.A Minimum Instruction Time : 0

Correct Marks : 5 Wrong Marks : 1

Question Key Details :

Key	Value
Comprehension	MCQ

निम्न में से कौन सा सिंचाई की कार्यसूची बनाने का मापदंड नहीं है?

- A. मृदा जल अवक्षय
- B. पादप अक्षांक
- C. शरीरक्रियात्मक अवस्थाएँ
- D. जॉच प्रोणी

नीचे दिए गए विकल्पों में से सही उत्तर का चयन कीजिए।

- 1. केवल A और B
- 2. केवल C और D
- 3. केवल A
- 4. केवल D

Options :

- 485584151565. 1
- 485584151566. 2
- 485584151567. 3
- 485584151568. 4

Question Number : 178 Question Id : 48558437893 Question Type : MCQ Option Shuffling : No Is Question Mandatory : No Calculator : None Response Time : N.A Think Time : N.A Minimum Instruction Time : 0

Correct Marks : 5 Wrong Marks : 1

Question Key Details :

Key	Value
Comprehension	MCQ

Who is the first person to use the word "weed"?

- 1. Jenny
- 2. Arnon
- 3. Jethro Tull
- 4. Dokuchaiev

Options :

- 485584151569. 1
- 485584151570. 2
- 485584151571. 3
- 485584151572. 4

Question Number : 178 Question Id : 48558437893 Question Type : MCQ Option Shuffling : No Is Question Mandatory : No Calculator : None Response Time : N.A Think Time : N.A Minimum Instruction Time : 0

Correct Marks : 5 Wrong Marks : 1

Question Key Details :

Key	Value
Comprehension	MCQ

'अपतृण' शब्द का प्रयोग करने वाला प्रथम व्यक्ति कौन है?

1. जैनी
2. आर्नन
3. जैथ्रो टुल
4. डीकुशेव

Options :

485584151569. 1
485584151570. 2
485584151571. 3
485584151572. 4

Question Number : 179 Question Id : 48558437894 Question Type : MCQ Option Shuffling : No Is Question Mandatory : No Calculator : None Response Time : N.A Think Time : N.A Minimum Instruction Time : 0

Correct Marks : 5 Wrong Marks : 1

Question Key Details :

Key	Value
Comprehension	MCQ

_____ weeds can be controlled by deep ploughing and exposing them to sun heat or by suitable combination of mechanical and chemical methods.

1. Annual
2. Biennial
3. Rabi season
4. Perennial

Options :

485584151573. 1
485584151574. 2
485584151575. 3
485584151576. 4

Question Number : 179 Question Id : 48558437894 Question Type : MCQ Option Shuffling : No Is Question Mandatory : No Calculator : None Response Time : N.A Think Time : N.A Minimum Instruction Time : 0

Correct Marks : 5 Wrong Marks : 1

Question Key Details :

Key	Value
Comprehension	MCQ

_____ अपतृण को, खेत को गहरा जोतकर तथा उन्हें सूर्य का प्रकाश दिखाकर अथवा यांत्रिक व रासायनिक विधियों के उपयुक्त संयोजन द्वारा नियंत्रित किया जा सकता है।

1. वार्षिक
2. द्विवर्षी
3. रबी के मौसम के
4. चारहमासी

Options :

485584151573. 1
485584151574. 2

485584151575. 3
485584151576. 4

Question Number : 180 Question Id : 48558437895 Question Type : MCQ Option Shuffling : No Is Question Mandatory : No Calculator : None
Response Time : N.A Think Time : N.A Minimum Instruction Time : 0

Correct Marks : 5 Wrong Marks : 1

Question Key Details :

Key	Value
Comprehension	MCQ

Choose the correct statements from the following:

- A. *Cajanus cajan* L. is not a correct botanical name of pigeonpea.
- B. Powdery mildew is a common disease in blackgram.
- C. *Arachis hypogaea* L. is botanical name of peanut.
- D. Tikka disease is very common in peanut.

Choose the correct answer from the options given below:

- 1. A, B and C only
- 2. B, C and D only
- 3. C and D only
- 4. A and C only

Options :

485584151577. 1
485584151578. 2
485584151579. 3
485584151580. 4

Question Number : 180 Question Id : 48558437895 Question Type : MCQ Option Shuffling : No Is Question Mandatory : No Calculator : None
Response Time : N.A Think Time : N.A Minimum Instruction Time : 0

Correct Marks : 5 Wrong Marks : 1

Question Key Details :

Key	Value
Comprehension	MCQ

सही कथन का चयन करें।

- A. कैजानस केजान एल. अरहर का सही वानस्पतिक नाम नहीं है।
- B. चूर्णिल असिता, काले चने में पाए जाने वाली सामान्य रोग है।
- C. अरेकिस हाइपोजिया एल. मूँगफली का वानस्पतिक नाम है।
- D. मूँगफली में टिकका रोग का पाया जाना सामान्य है।

नीचे दिए गए विकल्पों में से सही उत्तर का चयन कीजिए-

- 1. केवल A, B और C
- 2. केवल B, C और D
- 3. केवल C और D
- 4. केवल A और C

Options :

485584151577. 1
485584151578. 2
485584151579. 3
485584151580. 4

Question Number : 181 Question Id : 48558437896 Question Type : MCQ Option Shuffling : No Is Question Mandatory : No Calculator : None Response Time : N.A Think Time : N.A Minimum Instruction Time : 0

Correct Marks : 5 Wrong Marks : 1

Question Key Details :

Key	Value
Comprehension	MCQ

Match List I with List II

LIST I Crop		LIST II Disease	
A.	Sugarcane	I.	Grain smut
B.	Rice	II.	Grassy shoot
C.	Sowar	III.	Wilt
D.	Cotton	IV.	Blast

Choose the correct answer from the options given below:

1. A-I, B-II, C-III, D-IV
2. A-I, B-II, C-IV, D-III
3. A-II, B-IV, C-I, D-III
4. A-III, B-I, C-II, D-IV

Options :

485584151581. 1
485584151582. 2
485584151583. 3
485584151584. 4

Question Number : 181 Question Id : 48558437896 Question Type : MCQ Option Shuffling : No Is Question Mandatory : No Calculator : None Response Time : N.A Think Time : N.A Minimum Instruction Time : 0

Correct Marks : 5 Wrong Marks : 1

Question Key Details :

Key	Value
Comprehension	MCQ

सूची I के साथ सूची II का मिलान कीजिए।

सूची I शास्य		सूची II रोग	
A.	गन्ना	I.	अनाज केंड
B.	चायरा	II.	घासमय प्ररोह
C.	ज्वार	III.	म्रादिनि
D.	कपास	IV.	स्फोटन

नीचे दिए गए विकल्पों में से सही उत्तर का चयन कीजिए।

1. A-I, B-II, C-III, D-IV
2. A-I, B-II, C-IV, D-III
3. A-II, B-IV, C-I, D-III
4. A-III, B-I, C-II, D-IV

Options :

485584151581. 1
485584151582. 2
485584151583. 3
485584151584. 4

Question Number : 182 Question Id : 48558437897 Question Type : MCQ Option Shuffling : No Is Question Mandatory : No Calculator : None Response Time : N.A Think Time : N.A Minimum Instruction Time : 0

Correct Marks : 5 Wrong Marks : 1

Question Key Details :

Key	Value
Comprehension	MCQ

Match List I with List II

LIST I Crop		LIST II Botanical name	
A.	Jowar	I.	<i>Cicer arietinum</i>
B.	Rice	II.	<i>Gossypium species</i>
C.	Cotton	III.	<i>Oryza sativa</i>
D.	Gram	IV.	<i>Sorghum bicolor</i>

Choose the correct answer from the options given below:

1. A-I, B-II, C-III, D-IV
2. A-IV, B-III, C-II, D-I
3. A-III, B-II, C-I, D-IV
4. A-II, B-I, C-III, D-IV

Options :

485584151585. 1
485584151586. 2
485584151587. 3
485584151588. 4

Question Number : 182 Question Id : 48558437897 Question Type : MCQ Option Shuffling : No Is Question Mandatory : No Calculator : None Response Time : N.A Think Time : N.A Minimum Instruction Time : 0

Correct Marks : 5 Wrong Marks : 1

Question Key Details :

Key	Value
Comprehension	MCQ

सूची I के साथ सूची II का मिलान कीजिए।

सूची I शस्य		सूची II बानस्पतिक नाम	
A.	ज्वार	I.	साइसर एरिटिनम
B.	चायरा	II.	गोसोपियम प्रजातियाँ
C.	कपास	III.	ओरिडजा सेटाइवा
D.	चना	IV.	सोरघम बाइकलर

नीचे दिए गए विकल्पों में से सही उत्तर का चयन कीजिए-

1. A-I, B-II, C-III, D-IV
2. A-IV, B-III, C-II, D-I
3. A-III, B-II, C-I, D-IV
4. A-II, B-I, C-III, D-IV

Options :

485584151585. 1
485584151586. 2
485584151587. 3
485584151588. 4

Question Number : 183 Question Id : 48558437898 Question Type : MCQ Option Shuffling : No Is Question Mandatory : No Calculator : None
Response Time : N.A Think Time : N.A Minimum Instruction Time : 0

Correct Marks : 5 Wrong Marks : 1

Question Key Details :

Key	Value
Comprehension	MCQ

Identify the alternate bearing variety of mango

1. Dasbehari
2. Anrapali
3. Mallika
4. Pusa Arunima

Options :

485584151589. 1
485584151590. 2
485584151591. 3
485584151592. 4

Question Number : 183 Question Id : 48558437898 Question Type : MCQ Option Shuffling : No Is Question Mandatory : No Calculator : None
Response Time : N.A Think Time : N.A Minimum Instruction Time : 0

Correct Marks : 5 Wrong Marks : 1

Question Key Details :

Key	Value
Comprehension	MCQ

आम की एकान्तर वहन किसम की पहचान करें

1. दशहरी
2. आमपाली
3. मल्लिका
4. पूसा अरुणिमा

Options :

485584151589. 1
485584151590. 2
485584151591. 3
485584151592. 4

Question Number : 184 Question Id : 48558437899 Question Type : MCQ Option Shuffling : No Is Question Mandatory : No Calculator : None
Response Time : N.A Think Time : N.A Minimum Instruction Time : 0

Correct Marks : 5 Wrong Marks : 1

Question Key Details :

Key	Value
Comprehension	MCQ

Given below are the different fruit crops grown in India. Arrange them in decreasing order of production.

- A. Mango
- B. Papaya
- C. Banana
- D. Citrus

Choose the correct sequence

- 1. A, C, B, D
- 2. A, C, D, B
- 3. C, A, B, D
- 4. C, A, D, B

Options :

- 485584151593. 1
- 485584151594. 2
- 485584151595. 3
- 485584151596. 4

Question Number : 184 Question Id : 48558437899 Question Type : MCQ Option Shuffling : No Is Question Mandatory : No Calculator : None Response Time : N.A Think Time : N.A Minimum Instruction Time : 0

Correct Marks : 5 Wrong Marks : 1

Question Key Details :

Key	Value
Comprehension	MCQ

भारत में उगाई जाने वाली विभिन्न फलों की फसलें नीचे दी गई हैं। इन्हें इनके उत्पादन के घटते हुए क्रम में लिखें।

- A. आम
- B. पपीता
- C. केला
- D. नींबू-वंश

नीचे दिए गए विकल्पों में से सही उत्तर का चयन कीजिए:

- 1. A, C, B, D
- 2. A, C, D, B
- 3. C, A, B, D
- 4. C, A, D, B

Options :

- 485584151593. 1
- 485584151594. 2
- 485584151595. 3
- 485584151596. 4

Question Number : 185 Question Id : 48558437900 Question Type : MCQ Option Shuffling : No Is Question Mandatory : No Calculator : None Response Time : N.A Think Time : N.A Minimum Instruction Time : 0

Correct Marks : 5 Wrong Marks : 1

Question Key Details :

Key	Value
Comprehension	MCQ

Which fruit plant is called Apple of paradise?

1. Banana
2. Apple
3. Beal
4. Jackfruit

Options :

485584151597. 1
485584151598. 2
485584151599. 3
485584151600. 4

Question Number : 185 Question Id : 48558437900 Question Type : MCQ Option Shuffling : No Is Question Mandatory : No Calculator : None Response Time : N.A Think Time : N.A Minimum Instruction Time : 0

Correct Marks : 5 Wrong Marks : 1

Question Key Details :

Key	Value
Comprehension	MCQ

फल के किस पादप को स्वर्ग का सेब कहा जाता है?

1. केला
2. सेब
3. बेल
4. कटहल

Options :

485584151597. 1
485584151598. 2
485584151599. 3
485584151600. 4

Question Number : 186 Question Id : 48558437901 Question Type : MCQ Option Shuffling : No Is Question Mandatory : No Calculator : None Response Time : N.A Think Time : N.A Minimum Instruction Time : 0

Correct Marks : 5 Wrong Marks : 1

Question Key Details :

Key	Value
Comprehension	MCQ

Which one is **not** an early maturing potato variety?

1. Kufri Surya
2. Kufri Ashoka
3. Kufri Sinduri
4. Kufri Chandramukhi

Options :

485584151601. 1
485584151602. 2
485584151603. 3
485584151604. 4

Question Number : 186 Question Id : 48558437901 Question Type : MCQ Option Shuffling : No Is Question Mandatory : No Calculator : None
Response Time : N.A Think Time : N.A Minimum Instruction Time : 0

Correct Marks : 5 Wrong Marks : 1

Question Key Details :

Key	Value
Comprehension	MCQ

निम्न में से आलू की कौन सी किस्म शीघ्र परिपक्व होने वाली नहीं है?

1. कुफ़री सूर्या
2. कुफ़री अशोफा
3. कुफ़री सिन्दूरी
4. कुफ़री चन्द्रमुखी

Options :

485584151601. 1

485584151602. 2

485584151603. 3

485584151604. 4

Question Number : 187 Question Id : 48558437902 Question Type : MCQ Option Shuffling : No Is Question Mandatory : No Calculator : None
Response Time : N.A Think Time : N.A Minimum Instruction Time : 0

Correct Marks : 5 Wrong Marks : 1

Question Key Details :

Key	Value
Comprehension	MCQ

Match List I with List II

LIST I		LIST II	
A.	Mango	I.	<i>Raphanus sativus</i>
B.	Cabbage	II.	<i>Brassica oleracea</i>
C.	Onion	III.	<i>Mangifera indica</i>
D.	Radish	IV.	<i>Allium cepa</i>

Choose the correct answer from the options given below:

1. A-I, B-IV, C-III, D-II
2. A-II, B-I, C-III, D-IV
3. A-III, B-II, C-IV, D-I
4. A-I, B-II, C-III, D-IV

Options :

485584151605. 1

485584151606. 2

485584151607. 3

485584151608. 4

Question Number : 187 Question Id : 48558437902 Question Type : MCQ Option Shuffling : No Is Question Mandatory : No Calculator : None
Response Time : N.A Think Time : N.A Minimum Instruction Time : 0

Correct Marks : 5 Wrong Marks : 1

Question Key Details :

Key	Value
Comprehension	MCQ

सूची I के साथ सूची II का मिलान कीजिए।

सूची I		सूची II	
A. आम		I. रेफेनस सेटाइवस	
B. बजगोभी		II. ब्रासिका जलिवेरसिया	
C. प्याज		III. मेसीफेरा इंडिका	
D. मूली		IV. एलियम सीपा	

नीचे दिए गए विकल्पों में से सही उत्तर का चयन कीजिए।

1. A-I, B-IV, C-III, D-II
2. A-II, B-I, C-III, D-IV
3. A-III, B-II, C-IV, D-I
4. A-I, B-II, C-III, D-IV

Options :

485584151605. 1
485584151606. 2
485584151607. 3
485584151608. 4

Question Number : 188 Question Id : 48558437903 Question Type : MCQ Option Shuffling : No Is Question Mandatory : No Calculator : None Response Time : N.A Think Time : N.A Minimum Instruction Time : 0

Correct Marks : 5 Wrong Marks : 1

Question Key Details :

Key	Value
Comprehension	MCQ

What is the main component of Salisbary's diluent?

1. Sodium Chloride
2. Sodium Citrate
3. Sodium Oxalate
4. Sodium dithionate

Options :

485584151609. 1
485584151610. 2
485584151611. 3
485584151612. 4

Question Number : 188 Question Id : 48558437903 Question Type : MCQ Option Shuffling : No Is Question Mandatory : No Calculator : None Response Time : N.A Think Time : N.A Minimum Instruction Time : 0

Correct Marks : 5 Wrong Marks : 1

Question Key Details :

Key	Value
Comprehension	MCQ

सैलसबरी तनुकारी का मुख्य घटक कौन सा है?

1. सोडियम क्लोराइड
2. सोडियम सिट्रेट
3. सोडियम आक्सेलेट
4. सोडियम डाइथायोनेट

Options :

485584151609. 1
485584151610. 2
485584151611. 3
485584151612. 4

Question Number : 189 Question Id : 48558437904 Question Type : MCQ Option Shuffling : No Is Question Mandatory : No Calculator : None
Response Time : N.A Think Time : N.A Minimum Instruction Time : 0

Correct Marks : 5 Wrong Marks : 1

Question Key Details :

Key	Value
Comprehension	MCQ

Total soluble solids in fruit jam should not be less than _____ degree Brix.

1. 68.5
2. 65.5
3. 72.5
4. 62.5

Options :

485584151613. 1
485584151614. 2
485584151615. 3
485584151616. 4

Question Number : 189 Question Id : 48558437904 Question Type : MCQ Option Shuffling : No Is Question Mandatory : No Calculator : None
Response Time : N.A Think Time : N.A Minimum Instruction Time : 0

Correct Marks : 5 Wrong Marks : 1

Question Key Details :

Key	Value
Comprehension	MCQ

फलों के जैम में कुल धुलनशील ठोस की मात्रा _____ डिग्री ब्रिक्स से कम नहीं होनी चाहिए।

1. 68.5
2. 65.5
3. 72.5
4. 62.5

Options :

485584151613. 1
485584151614. 2
485584151615. 3
485584151616. 4

Question Number : 190 Question Id : 48558437905 Question Type : MCQ Option Shuffling : No Is Question Mandatory : No Calculator : None Response Time : N.A Think Time : N.A Minimum Instruction Time : 0

Correct Marks : 5 Wrong Marks : 1

Question Key Details :

Key	Value
Comprehension	MCQ

Match List I with List II

LIST I - Crop		LIST II- Variety	
A.	Papaya	I.	Parlate
B.	Banana	II.	L-49
C.	Grapes	III.	Solo
D.	Guava	IV.	Nendran

Choose the correct answer from the options given below:

1. A-III, B-II, C-I, D-IV
2. A-IV, B-III, C-II, D-I
3. A-II, B-III, C-I, D-IV
4. A-III, B-IV, C-I, D-II

Options :

485584151617. 1

485584151618. 2

485584151619. 3

485584151620. 4

Question Number : 190 Question Id : 48558437905 Question Type : MCQ Option Shuffling : No Is Question Mandatory : No Calculator : None Response Time : N.A Think Time : N.A Minimum Instruction Time : 0

Correct Marks : 5 Wrong Marks : 1

Question Key Details :

Key	Value
Comprehension	MCQ

सूची I के साथ सूची II का मिलान कीजिए।

सूची I		सूची II	
A.	पपीता	I.	परलैट
B.	केला	II.	L-49
C.	अंगूर	III.	सोलो
D.	अमरूद	IV.	नेन्दन

नीचे दिए गए विकल्पों में से सही उत्तर का चयन कीजिए

1. A-III, B-II, C-I, D-IV
2. A-IV, B-III, C-II, D-I
3. A-II, B-III, C-I, D-IV
4. A-III, B-IV, C-I, D-II

Options :

485584151617. 1

485584151618. 2

485584151619. 3

485584151620. 4

Sub-Section Number :

2

Sub-Section Id :

4855842904

Question Shuffling Allowed :

No

Question Number : 191 Question Id : 48558437906 Question Type : MCQ Option Shuffling : No Is Question Mandatory : No Calculator : None
Response Time : N.A Think Time : N.A Minimum Instruction Time : 0

Correct Marks : 5 Wrong Marks : 1

Question Key Details :

Key	Value
Comprehension	Compl

Read the passage and answer question

Special feeds are the substances which are added in the roughage component of the diet to enrich its nutritive value. Low quality dry roughages like wheat straw, paddy straw, jawar kadbi and even crop residues are poor in their nutritive value and palatability. However, all these fodders form the major proportion of staple diets of the ruminants. Hence the enrichment of these fodders with suitable low-cost energy and protein sources make them not only palatable but they can be efficiently and completely utilized by the ruminants. Ruminants can efficiently digest fertilizer grade urea with the help of micro organisms in to quality proteins, hence urea is used to enrich such low quality roughages. Feed urea provides 2900 g crude protein / kg. When urea is heated, biuret is obtained. Both are useful in ruminants' feeding. Biuret provides 2550g crude protein / kg. Use of urea molasses for increasing nutritive value and palatability of wheat straw, jawar kadbi, etc. is now a day practiced for their efficient utilization in the livestock farms.

How much quantity of crude protein is provided by feeding urea to livestock?

1. 2900 gm/kg
2. 2550 gm/kg
3. 2800 gm/kg
4. 1680 gm/kg

Options :

485584151621. 1
485584151622. 2
485584151623. 3
485584151624. 4

Question Number : 191 Question Id : 48558437906 Question Type : MCQ Option Shuffling : No Is Question Mandatory : No Calculator : None
Response Time : N.A Think Time : N.A Minimum Instruction Time : 0

Correct Marks : 5 Wrong Marks : 1

Question Key Details :

Key	Value
Comprehension	Compl

दिए गए अनुच्छेद को पढ़ें और प्रश्नों के उत्तर दें।

विशेष आहार वे पदार्थ हैं जिन्हें भोजन के रेशेदार तत्वों में उसके पोषक तत्वों को समृद्ध बनाने के लिए डाला जाता है। निम्न गुणवत्ता वाले शुष्क रेशे जैसे गेहूँ की भूसी, धान की भूसी, ज्वार कदबी तथा यहाँ तक कि शस्य अवशिष्ट भी पोषक तत्वों की मात्रा तथा स्वाद में निकृष्ट होते हैं। फिर भी, ये सभी चारे जुगाली करने वाले पशुओं के भोजन का मुख्य भाग होते हैं। इसलिए इन चारों को उपयुक्त कम खर्च वाले ऊर्जा तथा प्रोटीन के स्रोतों द्वारा समृद्ध बनाने से ये न केवल स्वादिष्ट हो जाते हैं अपितु ये इन पशुओं द्वारा कुशलतापूर्वक तथा पूर्ण रूप से उपयोग कर लिए जाते हैं। ये पशु उर्वरकों, ग्रेड यूरिया को सूक्ष्मजीवियों की सहायता द्वारा गुणवत्तापूर्ण प्रोटीन के रूप में कुशलता से पचा लेते हैं। इसलिए ऐसे निम्न गुणवत्ता वाले रेशेदार पदार्थों को यूरिया द्वारा समृद्ध बनाया जाता है। यूरिया आहार 2900 ग्रा. अपक प्रोटीन/ कि. ग्रा. प्रदान करता है। जब यूरिया को गर्म किया जाता है तो बाइयूरेट प्राप्त होता है। जुगाली करने वाले पशुओं के भोजन के लिए दोनों ही उपयोगी हैं। बाइयूरेट 2550 ग्रा. अपक प्रोटीन / कि.ग्रा. प्रदान करता है। यूरिया के उपयोग गेहूँ की भूसी, ज्वार कदबी आदि के पोषक तत्वों तथा स्वाद को बढ़ाने के लिए आजकल शीरे का उपयोग किया जाता है जिससे कि पशुओं के फार्म पर उनका पूरी तरह से उपयोग हो सके।

पशुओं के भोजन में यूरिया डालने से अपक प्रोटीन की कितनी मात्रा प्रदान की जाती है?

1. 2900 ग्रा. अपक प्रोटीन /कि.ग्रा.
2. 2550 ग्रा. अपक प्रोटीन /कि.ग्रा.
3. 2800 ग्रा. अपक प्रोटीन /कि.ग्रा.
4. 1680 ग्रा. अपक प्रोटीन /कि.ग्रा.

Options :

485584151621. 1
485584151622. 2
485584151623. 3
485584151624. 4

Question Number : 192 Question Id : 48558437907 Question Type : MCQ Option Shuffling : No Is Question Mandatory : No Calculator : None Response Time : N.A Think Time : N.A Minimum Instruction Time : 0

Correct Marks : 5 Wrong Marks : 1

Question Key Details :

Key	Value
Comprehension	Compl

Read the passage and answer question

Special feeds are the substances which are added in the roughage component of the diet to enrich its nutritive value. Low quality dry roughages like wheat straw, paddy straw, jawar kadbi and even crop residues are poor in their nutritive value and palatability. However, all these fodders form the major proportion of staple diets of the ruminants. Hence the enrichment of these fodders with suitable low-cost energy and protein sources make them not only palatable but they can be efficiently and completely utilized by the ruminants. Ruminants can efficiently digest fertilizer grade urea with the help of micro organisms in to quality proteins, hence urea is used to enrich such low quality roughages. Feed urea provides 2900 g crude protein / kg. When urea is heated, biuret is obtained. Both are useful in ruminants' feeding. Biuret provides 2550g crude protein / kg. Use of urea molasses for increasing nutritive value and palatability of wheat straw, jawar kadbi, etc. is now a day practiced for their efficient utilization in the livestock farms.

What is formed when urea is heated?

1. Biuret
2. Molasses
3. Digester
4. Liquid urea

Options :

485584151625. 1
485584151626. 2
485584151627. 3
485584151628. 4

Question Number : 192 Question Id : 48558437907 Question Type : MCQ Option Shuffling : No Is Question Mandatory : No Calculator : None Response Time : N.A Think Time : N.A Minimum Instruction Time : 0

Correct Marks : 5 Wrong Marks : 1

Question Key Details :

Key	Value
Comprehension	Compl

दिए गए अनुच्छेद को पढ़ें और प्रश्नों के उत्तर दें।

विशेष आहार वे पदार्थ हैं जिन्हें भोजन के रेशेदार तत्वों में उसके पोषक तत्वों को समृद्ध बनाने के लिए डाला जाता है। निम्न गुणवत्ता वाले शुष्क रेशे जैसे गेहूँ की भूसी, धान की भूसी, ज्वार कदबी तथा यहाँ तक कि शस्य अवशिष्ट भी पोषक तत्वों की मात्रा तथा स्वाद में निकृष्ट होते हैं। फिर भी, ये सभी चारे जुगाली करने वाले पशुओं के भोजन का मुख्य भाग होते हैं। इसलिए इन चारों को उपयुक्त कम खर्च वाले ऊर्जा तथा प्रोटीन के स्रोतों द्वारा समृद्ध बनाने से ये न केवल स्वादिष्ट हो जाते हैं अपितु ये इन पशुओं द्वारा कुशलतापूर्वक तथा पूर्ण रूप से उपयोग कर लिए जाते हैं। ये पशु उर्वरकों - ग्रेड यूरिया को सूक्ष्मजीवियों की सहायता द्वारा गुणवत्तापूर्ण प्रोटीन के रूप में कुशलता से पचा लेते हैं। इसलिए ऐसे निम्न गुणवत्ता वाले रेशेदार पदार्थों को यूरिया द्वारा समृद्ध बनाया जाता है। यूरिया आहार 2900 ग्रा. अपक प्रोटीन/ कि. ग्रा. प्रदान करता है। जब यूरिया को गर्म किया जाता है तो बाइयूरेट प्राप्त होता है। जुगाली करने वाले पशुओं के भोजन के लिए दोनों ही उपयोगी हैं। बाइयूरेट 2550 ग्रा. अपक प्रोटीन / कि.ग्रा. प्रदान करता है। यूरिया के उपयोग गेहूँ की भूसी, ज्वार कदबी आदि के पोषक तत्वों तथा स्वाद को बढ़ाने के लिए आजकल शीर का उपयोग किया जाता है जिससे कि पशुओं के फार्म पर उनका पूरी तरह से उपयोग हो सके।

यूरिया को गर्म करने पर क्या बनता है?

1. बाइयूरेट
2. शीरा
3. संपाचक
4. तरल यूरिया

Options :

485584151625. 1
485584151626. 2
485584151627. 3
485584151628. 4

Question Number : 193 Question Id : 48558437908 Question Type : MCQ Option Shuffling : No Is Question Mandatory : No Calculator : None Response Time : N.A Think Time : N.A Minimum Instruction Time : 0

Correct Marks : 5 Wrong Marks : 1

Question Key Details :

Key	Value
Comprehension	Compl

Read the passage and answer question

Special feeds are the substances which are added in the roughage component of the diet to enrich its nutritive value. Low quality dry roughages like wheat straw, paddy straw, jawar kadbi and even crop residues are poor in their nutritive value and palatability. However, all these fodders form the major proportion of staple diets of the ruminants. Hence the enrichment of these fodders with suitable low-cost energy and protein sources make them not only palatable but they can be efficiently and completely utilized by the ruminants. Ruminants can efficiently digest fertilizer grade urea with the help of micro organisms in to quality proteins, hence urea is used to enrich such low quality roughages. Feed urea provides 2900 g crude protein / kg. When urea is heated, biuret is obtained. Both are useful in ruminants' feeding. Biuret provides 2550g crude protein / kg. Use of urea molasses for increasing nutritive value and palatability of wheat straw, jawar kadbi, etc. is now a day practiced for their efficient utilization in the livestock farms.

What helps the ruminants to digest fertilizer grade urea?

1. Molasses
2. Enzymes
3. Micro-organisms
4. Biuret

Options :

485584151629. 1
485584151630. 2
485584151631. 3
485584151632. 4

Question Number : 193 Question Id : 48558437908 Question Type : MCQ Option Shuffling : No Is Question Mandatory : No Calculator : None
Response Time : N.A Think Time : N.A Minimum Instruction Time : 0

Correct Marks : 5 Wrong Marks : 1

Question Key Details :

Key	Value
Comprehension	Comp1

दिए गए अनुच्छेद को पढ़ें और प्रश्नों के उत्तर दें।

विशेष आहार वे पदार्थ हैं जिन्हें भोजन के रेशेदार तत्वों में उसके पोषक तत्वों को समृद्ध बनाने के लिए डाला जाता है। निम्न गुणवत्ता वाले शुष्क रेशे जैसे गेहूँ की भूसी, धान की भूसी, ज्वार कदबी तथा यहाँ तक कि शस्य अवशिष्ट भी पोषक तत्वों की मात्रा तथा स्वाद में निकृष्ट होते हैं। फिर भी, ये सभी चारे जुगाली करने वाले पशुओं के भोजन का मुख्य भाग होते हैं। इसलिए इन चारों को उपयुक्त कम खर्च वाले ऊर्जा तथा प्रोटीन के स्रोतों द्वारा समृद्ध बनाने से ये न केवल स्वादिष्ट हो जाते हैं अपितु ये इन पशुओं द्वारा कुशलतापूर्वक तथा पूर्ण रूप से उपयोग कर लिए जाते हैं। ये पशु उर्वरकों - ग्रेड यूरिया को सूक्ष्मजीवियों की सहायता द्वारा गुणवत्तापूर्ण प्रोटीन के रूप में कुशलता से पचा लेते हैं। इसलिए ऐसे निम्न गुणवत्ता वाले रेशेदार पदार्थों को यूरिया द्वारा समृद्ध बनाया जाता है। यूरिया आहार 2900 ग्रा. अपक प्रोटीन/ कि. ग्रा. प्रदान करता है। जब यूरिया को गर्म किया जाता है तो बाइयूरेट प्राप्त होता है। जुगाली करने वाले पशुओं के भोजन के लिए दोनों ही उपयोगी हैं। बाइयूरेट 2550 ग्रा. अपक प्रोटीन / कि.ग्रा. प्रदान करता है। यूरिया के उपयोग गेहूँ की भूसी, ज्वार कदबी आदि के पोषक तत्वों तथा स्वाद को बढ़ाने के लिए आजकल शीरे का उपयोग किया जाता है जिससे कि पशुओं के फार्म पर उनका पूरी तरह से उपयोग हो सके।

जुगाली करने वाले पशु उर्वरक ग्रेड यूरिया को कैसे पचा सकते हैं?

1. शीरे
2. एंजाइम
3. सूक्ष्मजीवियों
4. बाइयूरेट

Options :

485584151629. 1
485584151630. 2
485584151631. 3
485584151632. 4

Question Number : 194 Question Id : 48558437909 Question Type : MCQ Option Shuffling : No Is Question Mandatory : No Calculator : None
Response Time : N.A Think Time : N.A Minimum Instruction Time : 0

Correct Marks : 5 Wrong Marks : 1

Question Key Details :

Key	Value
Comprehension	Comp1

Read the passage and answer question

Special feeds are the substances which are added in the roughage component of the diet to enrich its nutritive value. Low quality dry roughages like wheat straw, paddy straw, jawar kadbi and even crop residues are poor in their nutritive value and palatability. However, all these fodders form the major proportion of staple diets of the ruminants. Hence the enrichment of these fodders with suitable low-cost energy and protein sources make them not only palatable but they can be efficiently and completely utilized by the ruminants. Ruminants can efficiently digest fertilizer grade urea with the help of micro organisms in to quality proteins, hence urea is used to enrich such low quality roughages. Feed urea provides 2900 g crude protein / kg. When urea is heated, biuret is obtained. Both are useful in ruminants' feeding. Biuret provides 2550g crude protein / kg. Use of urea molasses for increasing nutritive value and palatability of wheat straw, jawar kadbi, etc. is now a day practiced for their efficient utilization in the livestock farms.

Low nutritive value dry roughness include:

- A. Jowar Kadbi
- B. Lucerne
- C. Wheat straw
- D. Paddy straw

Choose the correct answer from the options given below:

- 1. A, B & C only
- 2. A, B & D only
- 3. A, C and D only
- 4. B, C and D only

Options :

- 485584151633. 1
- 485584151634. 2
- 485584151635. 3
- 485584151636. 4

Question Number : 194 Question Id : 48558437909 Question Type : MCQ Option Shuffling : No Is Question Mandatory : No Calculator : None Response Time : N.A Think Time : N.A Minimum Instruction Time : 0

Correct Marks : 5 Wrong Marks : 1

Question Key Details :

Key	Value
Comprehension	Comp1

दिए गए अनुच्छेद को पढ़ें और प्रश्नों के उत्तर दें।

विशेष आहार वे पदार्थ हैं जिन्हें भोजन के रेशेदार तत्वों में उसके पोषक तत्वों को समृद्ध बनाने के लिए डाला जाता है। निम्न गुणवत्ता वाले शुष्क रेशे जैसे गेहूँ की भूसी, धान की भूसी, ज्वार कदबी तथा यहाँ तक कि शसप अवशिष्ट भी पोषक तत्वों की मात्रा तथा स्वाद में निकृष्ट होते हैं। फिर भी, ये सभी चारे जुगाली करने वाले पशुओं के भोजन का मुख्य भाग होते हैं। इसलिए इन चारों को उपयुक्त कम खर्च वाले ऊर्जा तथा प्रोटीन के स्रोतों द्वारा समृद्ध बनाने से ये न केवल स्वादिष्ट हो जाते हैं अपितु ये इन पशुओं द्वारा कुशलतापूर्वक तथा पूर्ण रूप से उपयोग कर लिए जाते हैं। ये पशु उर्वरकों - प्रेड यूरिया को सूक्ष्मजीवियों की सहायता द्वारा गुणवत्तापूर्ण प्रोटीन के रूप में कुशलता से पचा लेते हैं। इसलिए ऐसे निम्न गुणवत्ता वाले रेशेदार पदार्थों को यूरिया द्वारा समृद्ध बनाया जाता है। यूरिया आहार 2900 ग्रा. अपक प्रोटीन/ कि. ग्रा. प्रदान करता है। जब यूरिया को गर्म किया जाता है तो बाइयूरेट प्राप्त होता है। जुगाली करने वाले पशुओं के भोजन के लिए दोनों ही उपयोगी हैं। बाइयूरेट 2550 ग्रा. अपक प्रोटीन / कि.ग्रा. प्रदान करता है। यूरिया के उपयोग गेहूँ की भूसी, ज्वार कदबी आदि के पोषक तत्वों तथा स्वाद को बढ़ाने के लिए आजकल शरिर का उपयोग किया जाता है जिससे कि पशुओं के फार्म पर उनका पूरी तरह से उपयोग हो सके।

निम्न पोषण वाले शुष्क रेशदार पदार्थों में क्या क्या सम्मिलित हैं?

- A. ज्वार कदबी
- B. ल्यूसरीन
- C. गेहूँ की भूसी
- D. धान की भूसी

नीचे दिए गए विकल्पों में से सही उत्तर का चयन कीजिए:

1. केवल A, B और C
2. केवल A, B और D
3. केवल A, C और D
4. केवल B, C और D

Options :

- 485584151633. 1
- 485584151634. 2
- 485584151635. 3
- 485584151636. 4

Question Number : 195 Question Id : 48558437910 Question Type : MCQ Option Shuffling : No Is Question Mandatory : No Calculator : None Response Time : N.A Think Time : N.A Minimum Instruction Time : 0

Correct Marks : 5 Wrong Marks : 1

Question Key Details :

Key	Value
Comprehension	Compl

Read the passage and answer question

Special feeds are the substances which are added in the roughage component of the diet to enrich its nutritive value. Low quality dry roughages like wheat straw, paddy straw, jawar kadbi and even crop residues are poor in their nutritive value and palatability. However, all these fodders form the major proportion of staple diets of the ruminants. Hence the enrichment of these fodders with suitable low-cost energy and protein sources make them not only palatable but they can be efficiently and completely utilized by the ruminants. Ruminants can efficiently digest fertilizer grade urea with the help of micro organisms in to quality proteins, hence urea is used to enrich such low quality roughages. Feed urea provides 2900 g crude protein / kg. When urea is heated, biuret is obtained. Both are useful in ruminants' feeding. Biuret provides 2550g crude protein / kg. Use of urea molasses for increasing nutritive value and palatability of wheat straw, jawar kadbi, etc. is now a day practiced for their efficient utilization in the livestock farms.

What is used to increase the nutritive value of wheat straw for feeding livestock?

1. Lime
2. Urea - molasses
3. Chocolate flavour
4. Micro organisms

Options :

- 485584151637. 1
- 485584151638. 2
- 485584151639. 3
- 485584151640. 4

Question Number : 195 Question Id : 48558437910 Question Type : MCQ Option Shuffling : No Is Question Mandatory : No Calculator : None Response Time : N.A Think Time : N.A Minimum Instruction Time : 0

Correct Marks : 5 Wrong Marks : 1

Question Key Details :

Key	Value
Comprehension	Comp1

दिए गए अनुच्छेद को पढ़ें और प्रश्नों के उत्तर दें।

विशेष आहार वे पदार्थ हैं जिन्हें भोजन के रेशेदार तत्वों में उसके पोषक तत्वों को समृद्ध बनाने के लिए डाला जाता है। निम्न गुणवत्ता वाले शुष्क रेशे जैसे गेहूँ की भूसी, धान की भूसी, ज्वार कदबी तथा यहाँ तक कि शस्य अवशिष्ट भी पोषक तत्वों की मात्रा तथा स्वाद में निकृष्ट होते हैं। फिर भी, ये सभी चारे जुगाली करने वाले पशुओं के भोजन का मुख्य भाग होते हैं। इसलिए इन चारों को उपयुक्त कम खर्च वाले ऊर्जा तथा प्रोटीन के स्रोतों द्वारा समृद्ध बनाने से ये न केवल स्वादिष्ट हो जाते हैं अपितु ये इन पशुओं द्वारा कुशलतापूर्वक तथा पूर्ण रूप से उपयोग कर लिए जाते हैं। ये पशु उर्वरकों, ग्रेड यूरिया को सूक्ष्मजीवियों की सहायता द्वारा गुणवत्तापूर्ण प्रोटीन के रूप में कुशलता से पचा लेते हैं। इसलिए ऐसे निम्न गुणवत्ता वाले रेशेदार पदार्थों को यूरिया द्वारा समृद्ध बनाया जाता है। यूरिया आहार 2900 ग्रा. अपक प्रोटीन/ कि. ग्रा. प्रदान करता है। जब यूरिया को गर्म किया जाता है तो बाइयूरेट प्राप्त होता है। जुगाली करने वाले पशुओं के भोजन के लिए दोनों ही उपयोगी हैं। बाइयूरेट 2550 ग्रा. अपक प्रोटीन / कि.ग्रा. प्रदान करता है। यूरिया के उपयोग गेहूँ की भूसी, ज्वार कदबी आदि के पोषक तत्वों तथा स्वाद को बढ़ाने के लिए आजकल शीर का उपयोग किया जाता है जिससे कि पशुओं के फार्म पर उनका पूरी तरह से उपयोग हो सके।

मवेशियों को खिलाने के लिए गेहूँ की भूसी में पोषक तत्वों को बढ़ाने के लिए निम्न में से किसका उपयोग किया जाता है?

1. चूना
2. यूरिया-शीरा
3. चाकलेट का स्वाद
4. सूक्ष्मजीवी

Options :

485584151637. 1
485584151638. 2
485584151639. 3
485584151640. 4

Sub-Section Number : 3
Sub-Section Id : 4855842905
Question Shuffling Allowed : No
Is Section Default? : null

Question Number : 196 Question Id : 48558437911 Question Type : MCQ Option Shuffling : No Is Question Mandatory : No Calculator : None
Response Time : N.A Think Time : N.A Minimum Instruction Time : 0

Correct Marks : 5 Wrong Marks : 1

Question Key Details :

Key	Value
Comprehension	Comp2

Read the passage carefully and answer questions

The agriculture and allied activities sector significantly contributed to the country's overall growth and development by ensuring food security. The Indian agriculture sector has been growing at an average annual growth rate of 4-6 per cent during the last six years. It grew by 3.0 per cent in 2021-22 compared to 3.3 per cent in 2020-21. In recent years, India has also rapidly emerged as the net exporter of agricultural products in 2020-21, exports of agriculture and allied products from India grew by 18 per cent over the previous year. During 2021-22, agricultural exports reached an all-time high of USD 50.2 billion. This period of buoyant performance could be ascribed to the measures taken by the Government to promote farmer-producer organisations, encourage crop diversification, and improve productivity in agriculture through support provided for mechanisation and the creation of the Agriculture Infrastructure Fund. Income support to farmers through the Pradhan Mantri Kisan Samman Nidhi (PM-KISAN) and the promotion of allied activities has led to diversification in sources of farmers' income, improving their resilience to weather shocks. The production of food grains and Oil seeds has been increasing Year-on Year (YOY). Production of pulses has also been notably higher than the average of 23.8 million tonnes in the last five years. Changing climate has been impacting agriculture adversely. The year 2022 witnessed an early heat wave during the wheat-harvesting season, adversely affecting its production. The year experienced a decline in the sown area for paddy cultivation too the Kharif season due to delayed monsoons and deficient rainfall.

Wheat production was adversely affected during 2022 due to:

1. Scanty rainfall at critical stage
2. Brown rust attack throughout the season
3. Heat wave during harvesting season
4. Locust attack in North-West India

Options :

485584151641. 1
485584151642. 2
485584151643. 3
485584151644. 4

Question Number : 196 Question Id : 48558437911 Question Type : MCQ Option Shuffling : No Is Question Mandatory : No Calculator : None Response Time : N.A Think Time : N.A Minimum Instruction Time : 0

Correct Marks : 5 Wrong Marks : 1

Question Key Details :

Key	Value
Comprehension	Comp2

दिए गए अनुच्छेद को पढ़ें तथा प्रश्नों के उत्तर दें।

कृषि तथा कृषि संबंधी कार्यक्षेत्र ने खाद्य सुरक्षा को सुनिश्चित करते हुए देश की समग्र वृद्धि तथा विकास में सार्थक योगदान दिया है। पिछले छः वर्षों से भारतीय कृषि क्षेत्र 4.6% की औसत वार्षिक वृद्धि दर से वृद्धि कर रहा है। 2020-21 की 3.3% वृद्धि की तुलना में 2021-22 में 3.0 % हुई। हाल ही के वर्षों में, भारत कृषि उत्पादों के निर्यात के रूप में तेजी से उभरा है। पिछले वर्ष की तुलना में, 2020-21 में भारत के कृषि तथा कृषि संबंधी उत्पादों के निर्यात में 18% की वृद्धि हुई। 2021-22 के दौरान, कृष्य निर्यात US \$50.2 बिलियन हमेशा से अधिक पहुँच गया। ऐसी उत्पादों के प्रदर्शन वाली अवधि का श्रेय सरकार द्वारा किसान-उत्पादक संगठनों को प्रेरित करने, शस्य विविधता को प्रोत्साहन देने तथा कृषि में उत्पादकता के सुधार हेतु पात्रीकरण और कृषि संरचनात्मक ढाँचे के लिए धन के सर्जन हेतु दिए गए अवलंब तथा किए गए उपायों को दिया जा सकता है। प्रधानमंत्री किसान सम्मान निधि (PM-KISAN) द्वारा किसानों को आय में सहायता देने तथा संबद्ध कार्यों के प्रोत्साहन द्वारा मौसमी आघातों के प्रति उनके लचीलेपन (सहन करने) में सुधार लाते हुए किसानों को, आय के विभिन्न स्रोतों की तरफ अग्रसर किया है। 2021-22 के लिए चौथे अग्रिम अनुमानिक खर्च के अनुसार खाद्यान्नों तथा तैलीय बीजों की उत्पादन वर्ष दर वर्ष (YOY) बढ़ रहा है। बलाहन उत्पाद भी पिछले पाँच वर्षों के औसत उत्पादन 23.8 मिलियन टनों से सार्थक रूप से अधिक हुआ है। हालाँकि, पूर्व में दिए सूचक के अनुसार बदलती हुई जलवायु, कृषि पर विपरीत प्रभाव डाल रही है। वर्ष 2022 में गेहूँ की कटाई के समय में समयपूर्व ही गरमी की लहर को झेला गया जिससे उत्पादन पर विपरीत प्रभाव आया। इस वर्ष में खरीफ के मौसम में धान की फसल के लिए बुवाई क्षेत्र में ह्रास अनुभव किया गया जो कि विलंबित मानसून तथा वर्षावृष्टि में कमी के कारण हुआ।

_____ के कारण 2022 वर्ष में गेहूँ का उत्पादन विपरीत रूप से प्रभावित हुआ।

1. क्रान्तिक अवस्था पर अल्प वर्षावृष्टि
2. पूरे मौसम में किट्ट का प्रकोप
3. कटाई के समय में ताप की लहर
4. उत्तर पश्चिमी भारत में टिड्डों का आक्रमण

Options :

485584151641. 1
485584151642. 2
485584151643. 3
485584151644. 4

Question Number : 197 Question Id : 48558437912 Question Type : MCQ Option Shuffling : No Is Question Mandatory : No Calculator : None Response Time : N.A Think Time : N.A Minimum Instruction Time : 0

Correct Marks : 5 Wrong Marks : 1

Question Key Details :

Key	Value
Comprehension	Comp2

Read the passage carefully and answer questions

The agriculture and allied activities sector significantly contributed to the country's overall growth and development by ensuring food security. The Indian agriculture sector has been growing at an average annual growth rate of 4-6 per cent during the last six years. It grew by 3.0 per cent in 2021-22 compared to 3.3 per cent in 2020-21. In recent years, India has also rapidly emerged as the net exporter of agricultural products in 2020-21, exports of agriculture and allied products from India grew by 18 per cent over the previous year. During 2021-22, agricultural exports reached an all-time high of USD 50.2 billion. This period of buoyant performance could be ascribed to the measures taken by the Government to promote farmer-producer organisations, encourage crop diversification, and improve productivity in agriculture through support provided for mechanisation and the creation of the Agriculture Infrastructure Fund. Income support to farmers through the Pradhan Mantri Kisan Samman Nidhi (PM-KISAN) and the promotion of allied activities has led to diversification in sources of farmers' income, improving their resilience to weather shocks. The production of food grains and Oil seeds has been increasing Year-on Year (YOY). Production of pulses has also been notably higher than the average of 23.8 million tonnes in the last five years. Changing climate has been impacting agriculture adversely. The year 2022 witnessed an early heat wave during the wheat-harvesting season, adversely affecting its production. The year experienced a decline in the sown area for paddy cultivation too the Kharif season due to delayed monsoons and deficient rainfall.

The agricultural exports of India has reached to US \$ _____.

1. 1 trillion
2. 75 billion
3. 100 billion
4. 50 billion

Options :

485584151645. 1
485584151646. 2
485584151647. 3
485584151648. 4

Question Number : 197 Question Id : 48558437912 Question Type : MCQ Option Shuffling : No Is Question Mandatory : No Calculator : None Response Time : N.A Think Time : N.A Minimum Instruction Time : 0

Correct Marks : 5 Wrong Marks : 1

Question Key Details :

Key	Value
Comprehension	Comp2

दिए गए अनुच्छेद को पढ़ें तथा प्रश्नों के उत्तर दें।

कृषि तथा कृषि संबंधी कार्यक्षेत्र ने खाद्य सुरक्षा को सुनिश्चित करते हुए देश की समग्र वृद्धि तथा विकास में सार्थक योगदान दिया है। पिछले छः वर्षों से भारतीय कृषि क्षेत्र 4.6% की औसत वार्षिक वृद्धि दर से वृद्धि कर रहा है। 2020-21 की 3.3% वृद्धि की तुलना में 2021-22 में 3.0 % हुई। हाल ही के वर्षों में, भारत कृषि उत्पादों के निर्यातों के रूप में तेजी से उभरा है। पिछले वर्ष की तुलना में, 2020-21 में भारत के कृषि तथा कृषि संबंधी उत्पादों के निर्यात में 18% की वृद्धि हुई। 2021-22 के दौरान, कृष्य निर्यात US \$50.2 बिलियन हमेशा से अधिक पहुँच गया। ऐसी उत्पादों प्रदर्शन वाली अवधि का श्रेय सरकार द्वारा किसान -उत्पादक संगठनों को प्रेरित करने , शस्य विविधता को प्रोत्साहन देने तथा कृषि में उत्पादकता के सुधार हेतु पात्रीकरण और कृषि संरचनात्मक ढाँचे के लिए धन के सर्जन हेतु दिए गए अवलंब तथा किए गए उपायों को दिया जा सकता है। प्रधानमंत्री किसान सम्मान निधि (PM-KISAN) द्वारा किसानों को आय में सहायता देने तथा संबद्ध कार्यों के प्रोत्साहन द्वारा मौसमी आघातों के प्रति उनके लचीलेपन (सहन करने) में सुधार लाते हुए किसानों को , आय के विभिन्न स्रोतों की तरफ अग्रसर किया है। 2021-22 के लिए चौथे अग्रिम अनुमानिक खर्च के अनुसार खाद्यान्नों तथा तैलीय बीजों की उत्पादन वर्ष दर वर्ष (YOY) बढ़ रहा है। दलहन उत्पाद भी पिछले पाँच वर्षों के औसत उत्पादन 23.8 मिलियन टनों से सार्थक रूप से अधिक हुआ है। हालाँकि, पूर्व में दिए सूचक के अनुसार बदलती हुई जलवायु, कृषि पर विपरीत प्रभाव डाल रही है। वर्ष 2022 में गेहूँ की कटाई के समय में समयपूर्व ही गरमी की लहर को झेला गया जिससे उत्पादन पर विपरीत प्रभाव आया। इस वर्ष में खरीफ के मौसम में धान की फसल के लिए बुवाई क्षेत्र में ह्यास अनुभव किया गया जो कि विलंबित मानसून तथा वर्षावृष्टि में कमी के कारण हुआ।

भारत के कृषि निर्यात US \$ _____ तक पहुँच गए हैं।

1. 1 ट्रिलियन
2. 75 बिलियन
3. 100 बिलियन
4. 50 बिलियन

Options :

485584151645. 1
485584151646. 2
485584151647. 3
485584151648. 4

Question Number : 198 Question Id : 48558437913 Question Type : MCQ Option Shuffling : No Is Question Mandatory : No Calculator : None Response Time : N.A Think Time : N.A Minimum Instruction Time : 0

Correct Marks : 5 Wrong Marks : 1

Question Key Details :

Key	Value
Comprehension	Comp2

Read the passage carefully and answer questions

The agriculture and allied activities sector significantly contributed to the country's overall growth and development by ensuring food security. The Indian agriculture sector has been growing at an average annual growth rate of 4-6 per cent during the last six years. It grew by 3.0 per cent in 2021-22 compared to 3.3 per cent in 2020-21. In recent years, India has also rapidly emerged as the net exporter of agricultural products in 2020-21, exports of agriculture and allied products from India grew by 18 per cent over the previous year. During 2021-22, agricultural exports reached an all-time high of USD 50.2 billion. This period of buoyant performance could be ascribed to the measures taken by the Government to promote farmer-producer organisations, encourage crop diversification, and improve productivity in agriculture through support provided for mechanisation and the creation of the Agriculture Infrastructure Fund. Income support to farmers through the Pradhan Mantri Kisan Samman Nidhi (PM-KISAN) and the promotion of allied activities has led to diversification in sources of farmers' income, improving their resilience to weather shocks. The production of food grains and Oil seeds has been increasing Year-on Year (YOY). Production of pulses has also been notably higher than the average of 23.8 million tonnes in the last five years. Changing climate has been impacting agriculture adversely. The year 2022 witnessed an early heat wave during the wheat-harvesting season, adversely affecting its production. The year experienced a decline in the sown area for paddy cultivation too the Kharif season due to delayed monsoons and deficient rainfall.

Pradhan Mantri Kisan Samman Nidhi (PM-KISAN) scheme has been operationalised to specifically provide:

1. Scholarships to farmer's children
2. Income support to farmers
3. Crop insurance coverage for farmers
4. Pension to farm women

Options :

- 485584151649. 1
- 485584151650. 2
- 485584151651. 3
- 485584151652. 4

Question Number : 198 Question Id : 48558437913 Question Type : MCQ Option Shuffling : No Is Question Mandatory : No Calculator : None Response Time : N.A Think Time : N.A Minimum Instruction Time : 0

Correct Marks : 5 Wrong Marks : 1

Question Key Details :

Key	Value
Comprehension	Comp2

दिए गए अनुच्छेद को पढ़ें तथा प्रश्नों के उत्तर दें।

कृषि तथा कृषि संबंधी कार्यक्षेत्र ने खाद्य सुरक्षा को सुनिश्चित करते हुए देश की समग्र वृद्धि तथा विकास में सार्थक योगदान दिया है। पिछले छः वर्षों से भारतीय कृषि क्षेत्र 4.6% की औसत वार्षिक वृद्धि दर से वृद्धि कर रहा है। 2020-21 की 3.3% वृद्धि की तुलना में 2021-22 में 3.0 % हुई। हाल ही के वर्षों में, भारत कृषि उत्पादों के निर्यात के रूप में तेजी से उभरा है। पिछले वर्ष की तुलना में, 2020-21 में भारत के कृषि तथा कृषि संबंधी उत्पादों के निर्यात में 18% की वृद्धि हुई। 2021-22 के दौरान, कृष्य निर्यात US \$50.2 बिलियन हमेशा से अधिक पहुँच गया। ऐसी उत्पादों के प्रदर्शन वाली अवधि का श्रेय सरकार द्वारा किसान-उत्पादक संगठनों को प्रेरित करने, शस्य विविधता को प्रोत्साहन देने तथा कृषि में उत्पादकता के सुधार हेतु पात्रीकरण और कृषि संरचनात्मक ढाँचे के लिए धन के सर्जन हेतु दिए गए अवलंब तथा किए गए उपायों को दिया जा सकता है। प्रधानमंत्री किसान सम्मान निधि (PM-KISAN) द्वारा किसानों को आय में सहायता देने तथा संबद्ध कार्यों के प्रोत्साहन द्वारा मौसमी आघातों के प्रति उनके लचीलेपन (सहन करने) में सुधार लाते हुए किसानों को, आय के विभिन्न स्रोतों की तरफ अग्रसर किया है। 2021-22 के लिए चौथे अग्रिम अनुमानिक खर्च के अनुसार खाद्यान्नों तथा तैलीय बीजों की उत्पादन वर्ष दर वर्ष (YOY) बढ़ रहा है। बलहन उत्पाद भी पिछले पाँच वर्षों के औसत उत्पादन 23.8 मिलियन टनों से सार्थक रूप से अधिक हुआ है। हालाँकि, पूर्व में दिए सूचक के अनुसार बदलती हुई जलवायु, कृषि पर विपरीत प्रभाव डाल रही है। वर्ष 2022 में गेहूँ की कटाई के समय में समयपूर्व ही गर्मी की लहर को झेला गया जिससे उत्पादन पर विपरीत प्रभाव आया। इस वर्ष में खरीफ के मौसम में धान की फसल के लिए बुवाई क्षेत्र में ह्रास अनुभव किया गया जो कि विलंबित मानसून तथा वर्षावृष्टि में कमी के कारण हुआ।

प्रधानमंत्री किसान सम्मान निधि (PM-KISAN) योजना विशेषरूप से _____ प्रदान करने के लिए चलाई गई।

1. किसानों के बच्चों को छात्रवृत्ति देने के लिए
2. किसानों को आय का अवलंब प्रदान करने के लिए
3. किसानों को शस्य बीमा प्रदान करने के लिए
4. खेतिहर महिलाओं को पेंशन देने के लिए

Options :

485584151649. 1
485584151650. 2
485584151651. 3
485584151652. 4

Question Number : 199 Question Id : 48558437914 Question Type : MCQ Option Shuffling : No Is Question Mandatory : No Calculator : None
Response Time : N.A Think Time : N.A Minimum Instruction Time : 0

Correct Marks : 5 Wrong Marks : 1

Question Key Details :

Key	Value
Comprehension	Comp2

Read the passage carefully and answer questions

The agriculture and allied activities sector significantly contributed to the country's overall growth and development by ensuring food security. The Indian agriculture sector has been growing at an average annual growth rate of 4-6 per cent during the last six years. It grew by 3.0 per cent in 2021-22 compared to 3.3 per cent in 2020-21. In recent years, India has also rapidly emerged as the net exporter of agricultural products in 2020-21, exports of agriculture and allied products from India grew by 18 per cent over the previous year. During 2021-22, agricultural exports reached an all-time high of USD 50.2 billion. This period of buoyant performance could be ascribed to the measures taken by the Government to promote farmer-producer organisations, encourage crop diversification, and improve productivity in agriculture through support provided for mechanisation and the creation of the Agriculture Infrastructure Fund. Income support to farmers through the Pradhan Mantri Kisan Samman Nidhi (PM-KISAN) and the promotion of allied activities has led to diversification in sources of farmers' income, improving their resilience to weather shocks. The production of food grains and Oil seeds has been increasing Year-on Year (YOY). Production of pulses has also been notably higher than the average of 23.8 million tonnes in the last five years. Changing climate has been impacting agriculture adversely. The year 2022 witnessed an early heat wave during the wheat-harvesting season, adversely affecting its production. The year experienced a decline in the sown area for paddy cultivation too the Kharif season due to delayed monsoons and deficient rainfall.

The average annual growth rate of the Indian agriculture sector during last six year had been:

1. 3%
2. 4.6%
3. 18%
4. 23.8%

Options :

485584151653. 1
485584151654. 2
485584151655. 3
485584151656. 4

Question Number : 199 Question Id : 48558437914 Question Type : MCQ Option Shuffling : No Is Question Mandatory : No Calculator : None
Response Time : N.A Think Time : N.A Minimum Instruction Time : 0

Correct Marks : 5 Wrong Marks : 1

Question Key Details :

Key	Value
Comprehension	Comp2

दिए गए अनुच्छेद को पढ़ें तथा प्रश्नों के उत्तर दें।

कृषि तथा कृषि संबंधी कार्यक्षेत्र ने खाद्य सुरक्षा को सुनिश्चित करते हुए देश की समग्र वृद्धि तथा विकास में सार्थक योगदान दिया है। पिछले छः वर्षों से भारतीय कृषि क्षेत्र 4.6% की औसत वार्षिक वृद्धि दर से वृद्धि कर रहा है। 2020-21 की 3.3% वृद्धि की तुलना में 2021-22 में 3.0 % हुई। हाल ही के वर्षों में, भारत कृषि उत्पादों के निर्यातों के रूप में तेजी से उभरा है। पिछले वर्ष की तुलना में, 2020-21 में भारत के कृषि तथा कृषि संबंधी उत्पादों के निर्यात में 18% की वृद्धि हुई। 2021-22 के दौरान, कृष्य निर्यात US \$50.2 बिलियन हमेशा से अधिक पहुँच गया। ऐसी उत्पादों प्रदर्शन वाली अवधि का श्रेय सरकार द्वारा किसान -उत्पादक संगठनों को प्रेरित करने, शस्य विविधता को प्रोत्साहन देने तथा कृषि में उत्पादकता के सुधार हेतु पात्रीकरण और कृषि संरचनात्मक ढाँचे के लिए धन के सर्जन हेतु दिए गए अवलंब तथा किए गए उपायों को दिया जा सकता है। प्रधानमंत्री किसान सम्मान निधि (PM-KISAN) द्वारा किसानों को आय में सहायता देने तथा संबद्ध कार्यों के प्रोत्साहन द्वारा मौसमी आघातों के प्रति उनके लचीलेपन (सहन करने) में सुधार लाते हुए किसानों को, आय के विभिन्न स्रोतों की तरफ अग्रसर किया है। 2021-22 के लिए चौथे अग्रिम अनुमानिक खर्च के अनुसार खाद्यान्नों तथा तैलीय बीजों की उत्पादन वर्ष दर वर्ष (YOY) बढ़ रहा है। दलहन उत्पाद भी पिछले पाँच वर्षों के औसत उत्पादन 23.8 मिलियन टनों से सार्थक रूप से अधिक हुआ है। हालाँकि, पूर्व में दिए सूचक के अनुसार बदलती हुई जलवायु, कृषि पर विपरीत प्रभाव डाल रही है। वर्ष 2022 में गेहूँ की कटाई के समय में समयपूर्व ही गरमी की लहर को झेला गया जिससे उत्पादन पर विपरीत प्रभाव आया। इस वर्ष में खरीफ के मौसम में धान की फसल के लिए बुवाई क्षेत्र में ह्रास अनुभव किया गया जो कि विलंबित मानसून तथा वर्षावृष्टि में कमी के कारण हुआ।

पिछले छः वर्षों में भारत के कृषि क्षेत्र का औसत वार्षिक वृद्धि दर _____ % रहा।

1. 3
2. 4.6
3. 18
4. 23.8

Options :

485584151653. 1
485584151654. 2
485584151655. 3
485584151656. 4

Question Number : 200 Question Id : 48558437915 Question Type : MCQ Option Shuffling : No Is Question Mandatory : No Calculator : None Response Time : N.A Think Time : N.A Minimum Instruction Time : 0

Correct Marks : 5 Wrong Marks : 1

Question Key Details :

Key	Value
Comprehension	Comp2

Read the passage carefully and answer questions

The agriculture and allied activities sector significantly contributed to the country's overall growth and development by ensuring food security. The Indian agriculture sector has been growing at an average annual growth rate of 4-6 per cent during the last six years. It grew by 3.0 per cent in 2021-22 compared to 3.3 per cent in 2020-21. In recent years, India has also rapidly emerged as the net exporter of agricultural products in 2020-21, exports of agriculture and allied products from India grew by 18 per cent over the previous year. During 2021-22, agricultural exports reached an all-time high of USD 50.2 billion. This period of buoyant performance could be ascribed to the measures taken by the Government to promote farmer-producer organisations, encourage crop diversification, and improve productivity in agriculture through support provided for mechanisation and the creation of the Agriculture Infrastructure Fund. Income support to farmers through the Pradhan Mantri Kisan Samman Nidhi (PM-KISAN) and the promotion of allied activities has led to diversification in sources of farmers' income, improving their resilience to weather shocks. The production of food grains and Oil seeds has been increasing Year-on Year (YOY). Production of pulses has also been notably higher than the average of 23.8 million tonnes in the last five years. Changing climate has been impacting agriculture adversely. The year 2022 witnessed an early heat wave during the wheat-harvesting season, adversely affecting its production. The year experienced a decline in the sown area for paddy cultivation too the Kharif season due to delayed monsoons and deficient rainfall.

In 2022, there was a decline in the sown area of paddy in the kharif season, primarily due to:

1. Delayed harvesting of wheat
2. Early heat wave
3. Early floods
4. Delayed monsoons

Options :

- 485584151657. 1
- 485584151658. 2
- 485584151659. 3
- 485584151660. 4

Question Number : 200 Question Id : 48558437915 Question Type : MCQ Option Shuffling : No Is Question Mandatory : No Calculator : None Response Time : N.A Think Time : N.A Minimum Instruction Time : 0

Correct Marks : 5 Wrong Marks : 1

Question Key Details :

Key	Value
Comprehension	Comp2

दिए गए अनुच्छेद को पढ़ें तथा प्रश्नों के उत्तर दें।

कृषि तथा कृषि संबंधी कार्यक्षेत्र ने खाद्य सुरक्षा को सुनिश्चित करते हुए देश की समग्र वृद्धि तथा विकास में सार्थक योगदान दिया है। पिछले छः वर्षों से भारतीय कृषि क्षेत्र 4.6% की औसत वार्षिक वृद्धि दर से वृद्धि कर रहा है। 2020-21 की 3.3% वृद्धि की तुलना में 2021-22 में 3.0 % हुई। हाल ही के वर्षों में, भारत कृषि उत्पादों के निर्यातों के रूप में तेजी से उभरा है। पिछले वर्ष की तुलना में, 2020-21 में भारत के कृषि तथा कृषि संबंधी उत्पादों के निर्यात में 18% की वृद्धि हुई। 2021-22 के दौरान, कृष्य निर्यात US \$50.2 बिलियन हमेशा से अधिक पहुँच गया। ऐसी उत्पादों प्रदर्शन वाली अवधि का श्रेय सरकार द्वारा किसान-उत्पादक संगठनों को प्रेरित करने, शस्य विविधता को प्रोत्साहन देने तथा कृषि में उत्पादकता के सुधार हेतु पात्रीकरण और कृषि संरचनात्मक ढाँचे के लिए धन के सर्जन हेतु दिए गए अवलंब तथा किए गए उपायों को दिया जा सकता है। प्रधानमंत्री किसान सम्मान निधि (PM-KISAN) द्वारा किसानों को आय में सहायता देने तथा संबद्ध कार्यों के प्रोत्साहन द्वारा मौसमी आघातों के प्रति उनके लचीलेपन (सहन करने) में सुधार लाते हुए किसानों की, आय के विभिन्न स्रोतों की तरफ अग्रसर किया है। 2021-22 के लिए चौथे अग्रिम अनुमानिक खर्च के अनुसार खाद्यान्नों तथा तैलीय बीजों की उत्पादन वर्ष दर वर्ष (YOY) बढ़ रहा है। दलहन उत्पाद भी पिछले पाँच वर्षों के औसत उत्पादन 23.8 मिलियन टनों से सार्थक रूप से अधिक हुआ है। हालाँकि, पूर्व में दिए सूचक के अनुसार बदलती हुई जलवायु, कृषि पर विपरीत प्रभाव डाल रही है। वर्ष 2022 में गेहूँ की कटाई के समय में समयपूर्व ही गरमी की लहर को झेला गया जिससे उत्पादन पर विपरीत प्रभाव आया। इस वर्ष में खरीफ के मौसम में धान की फसल के लिए बुवाई क्षेत्र में ह्रास अनुभव किया गया जो कि विलंबित मानसून तथा वर्षावृष्टि में कमी के कारण हुआ।

वर्ष 2022 में, खरीफ के मौसम में, धान के बुवाई क्षेत्र में ह्रास हुआ, जो मुख्यतः _____ के कारण था।

1. गेहूँ की विलंबित कटाई
2. समय से पूर्व ताप लहर
3. समय से पूर्व बाढ़
4. विलंबित मानसून

Options :

485584151657. 1
485584151658. 2
485584151659. 3
485584151660. 4

Biology

Group Number :	6
Group Id :	485584887
Group Maximum Duration :	45
Group Minimum Duration :	45
Show Attended Group? :	No
Edit Attended Group? :	No
Break time :	0
Group Marks :	200
Is this Group for Examiner? :	No
Examiner permission :	Cant View
Show Progress Bar? :	No

Biology

Section Id :	4855841027
Section Number :	1
Section type :	Online
Mandatory or Optional :	Mandatory
Number of Questions :	50
Number of Questions to be attempted :	40
Section Marks :	200

Enable Mark as Answered Mark for Review and Clear Response : Yes
Maximum Instruction Time : 0
Sub-Section Number : 1
Sub-Section Id : 4855842906
Question Shuffling Allowed : Yes
Is Section Default? : null

Question Number : 201 Question Id : 48558439366 Question Type : MCQ Option Shuffling : No Is Question Mandatory : No Calculator : None
Response Time : N.A Think Time : N.A Minimum Instruction Time : 0

Correct Marks : 5 Wrong Marks : 1

Question Key Details :

Key	Value
Comprehension	MCQ

In which of the following mammals the menstrual cycle occur?

1. Apes
2. Dogs
3. Rats
4. Sheep

Options :

485584157461. 1
485584157462. 2
485584157463. 3
485584157464. 4

Question Number : 201 Question Id : 48558439366 Question Type : MCQ Option Shuffling : No Is Question Mandatory : No Calculator : None
Response Time : N.A Think Time : N.A Minimum Instruction Time : 0

Correct Marks : 5 Wrong Marks : 1

Question Key Details :

Key	Value
Comprehension	MCQ

निम्नलिखित स्तनधारियों में, किसमें आर्टिय ब्रॉ होता है?

1. ऐप्स
2. कुत्ता
3. चूहा
4. भेड़

Options :

485584157461. 1
485584157462. 2
485584157463. 3
485584157464. 4

Question Number : 202 Question Id : 48558439367 Question Type : MCQ Option Shuffling : No Is Question Mandatory : No Calculator : None
Response Time : N.A Think Time : N.A Minimum Instruction Time : 0

Correct Marks : 5 Wrong Marks : 1

Question Key Details :

Key	Value
Comprehension	MCQ

Match List I with List II

LIST I Mode of reproduction	LIST II Organism
A. Binary fission	I. <i>Chlamydomonas</i>
B. Zoospores	II. <i>Penicillium</i>
C. Conidia	III. <i>Amoeba</i>
D. Gemmules	IV. Sponge

Choose the correct answer from the options given below:

1. A-I, B-II, C-IV, D-III
2. A-II, B-III, C-I, D-IV
3. A-III, B-I, C-II, D-IV
4. A-IV, B-III, C-I, D-II

Options :

485584157465. 1
485584157466. 2
485584157467. 3
485584157468. 4

Question Number : 202 Question Id : 48558439367 Question Type : MCQ Option Shuffling : No Is Question Mandatory : No Calculator : None Response Time : N.A Think Time : N.A Minimum Instruction Time : 0

Correct Marks : 5 Wrong Marks : 1

Question Key Details :

Key	Value
Comprehension	MCQ

सूची I का सूची II से मिलान कीजिए

सूची I जनन की क्रियाविधि	सूची II जीव
A. द्विसंख्यन	I. <i>क्लैमिडोमोनास</i>
B. कलबीजाणु	II. <i>पेनिसिलियम</i>
C. कोनिडिया	III. <i>अमीबा</i>
D. जेम्यूल	IV. <i>स्पंज</i>

निम्नलिखित विकल्पों में से सही उत्तर का चयन कीजिए :

1. A-I, B-II, C-IV, D-III
2. A-II, B-III, C-I, D-IV
3. A-III, B-I, C-II, D-IV
4. A-IV, B-III, C-I, D-II

Options :

485584157465. 1
485584157466. 2
485584157467. 3
485584157468. 4

Question Number : 203 Question Id : 48558439368 Question Type : MCQ Option Shuffling : No Is Question Mandatory : No Calculator : None Response Time : N.A Think Time : N.A Minimum Instruction Time : 0

Correct Marks : 5 Wrong Marks : 1

Question Key Details :

Key	Value
Comprehension	MCQ

In artificial hybridisation bagging is done to.

1. Remove Anthers
2. Prevent unnecessary fruit formation
3. Ensure cross pollination
4. Prevent contamination of stigma with unwanted pollens

Options :

485584157469. 1
485584157470. 2
485584157471. 3
485584157472. 4

Question Number : 203 Question Id : 48558439368 Question Type : MCQ Option Shuffling : No Is Question Mandatory : No Calculator : None Response Time : N.A Think Time : N.A Minimum Instruction Time : 0

Correct Marks : 5 Wrong Marks : 1

Question Key Details :

Key	Value
Comprehension	MCQ

कृत्रिम संकरीकरण में बोरावस्लावरण किया जाता है:

1. पराग कोश के निष्कासन के लिए
2. अनावश्यक फल बनने से रोकने के लिए
3. पर-परागण को सुनिश्चित करने के लिए
4. वर्तिकाग्र को अवांछित परागों से बचाने के लिए

Options :

485584157469. 1
485584157470. 2
485584157471. 3
485584157472. 4

Question Number : 204 Question Id : 48558439369 Question Type : MCQ Option Shuffling : No Is Question Mandatory : No Calculator : None Response Time : N.A Think Time : N.A Minimum Instruction Time : 0

Correct Marks : 5 Wrong Marks : 1

Question Key Details :

Key	Value
Comprehension	MCQ

Match List I with List II

LIST I	LIST II
A. Attaches ovule to the placenta	I. Hilum
B. Regions where ovule fuses with the stalk	II. Chalaza
C. Place where integuments are not present	III. Funicle
D. Basal part of ovule	IV. Micropyle

Choose the correct answer from the options given below:

1. A-III, B-I, C-IV, D-II
2. A-III, B-IV, C-I, D-II
3. A-III, B-II, C-I, D-IV
4. A-II, B-IV, C-I, D-III

Options :

485584157473. 1
 485584157474. 2
 485584157475. 3
 485584157476. 4

Question Number : 204 Question Id : 48558439369 Question Type : MCQ Option Shuffling : No Is Question Mandatory : No Calculator : None
 Response Time : N.A Think Time : N.A Minimum Instruction Time : 0

Correct Marks : 5 Wrong Marks : 1

Question Key Details :

Key	Value
Comprehension	MCQ

सूची I का सूची II से मिलान कीजिए

सूची I		सूची II	
A.	बीजांड को अपरा से जोड़ता है	I.	हाइलम
B.	वह स्थान जहाँ बीजांड, वृत्त के साथ संगतित होता है	II.	निभाग (केलाजा)
C.	वह स्थान जहाँ अध्वावरण उपस्थित नहीं है	III.	कनीकल
D.	बीजांड का आधारी भाग	IV.	बीजांड द्वार

निम्नलिखित विकल्पों में से सही उत्तर का चयन कीजिए :

1. A-III, B-I, C-IV, D-II
2. A-III, B-IV, C-I, D-II
3. A-III, B-II, C-I, D-IV
4. A-II, B-IV, C-I, D-III

Options :

485584157473. 1
 485584157474. 2
 485584157475. 3
 485584157476. 4

Question Number : 205 Question Id : 48558439370 Question Type : MCQ Option Shuffling : No Is Question Mandatory : No Calculator : None
 Response Time : N.A Think Time : N.A Minimum Instruction Time : 0

Correct Marks : 5 Wrong Marks : 1

Question Key Details :

Key	Value
Comprehension	MCQ

Which of the following statements are correct with respect to reproduction in human?

- A. Menstrual cycle ceases during pregnancy
- B. Leydig cells found in ovary provide nourishment to the fertilized egg
- C. Androgens are produced by sertoli cells
- D. Zona pellucida is a membrane covering secondary oocyte

Choose the correct answer from the options given below:

1. A, B only
2. B, C only
3. A, D only
4. B, D only

Options :

485584157477. 1

485584157478. 2
485584157479. 3
485584157480. 4

Question Number : 205 Question Id : 48558439370 Question Type : MCQ Option Shuffling : No Is Question Mandatory : No Calculator : None
Response Time : N.A Think Time : N.A Minimum Instruction Time : 0

Correct Marks : 5 Wrong Marks : 1

Question Key Details :

Key	Value
Comprehension	MCQ

मानव के जनन के संदर्भ में निम्नलिखित कथनों में कौन सा कथन सही है?

- A. सगर्भता के दौरान आर्तव चक्र बंद हो जाता है।
- B. अंडाशय में पायी जाने वाली लीडिंग कोशिकाएँ निषेचित अंडाणु को पोषण प्रदान करती है।
- C. सर्टोली कोशिकाओं से एंड्रोजन उत्पन्न होते हैं।
- D. जोना पेलुसिडा, द्वितीय अंडक को ढकने वाली झिल्ली है।

नीचे दिए गए विकल्पों में से सबसे उपयुक्त उत्तर का चयन कीजिए:

- 1. केवल A और B
- 2. केवल B और C
- 3. केवल A और D
- 4. केवल B और D

Options :

485584157477. 1
485584157478. 2
485584157479. 3
485584157480. 4

Question Number : 206 Question Id : 48558439371 Question Type : MCQ Option Shuffling : No Is Question Mandatory : No Calculator : None
Response Time : N.A Think Time : N.A Minimum Instruction Time : 0

Correct Marks : 5 Wrong Marks : 1

Question Key Details :

Key	Value
Comprehension	MCQ

Which of the following hormone acts on the uterine muscles and cause strong uterine contractions during foetal ejection reflex?

- 1. hCG
- 2. hPL
- 3. Relaxin
- 4. Oxytocin

Options :

485584157481. 1
485584157482. 2
485584157483. 3
485584157484. 4

Question Number : 206 Question Id : 48558439371 Question Type : MCQ Option Shuffling : No Is Question Mandatory : No Calculator : None
Response Time : N.A Think Time : N.A Minimum Instruction Time : 0

Correct Marks : 5 Wrong Marks : 1

Question Key Details :

Key	Value
Comprehension	MCQ

गर्भ उत्प्रेषण प्रतिवर्त के दौरान, कौन सा हार्मोन गर्भाशय पेशी पर कार्य करता है और इसके कारण जोर-जोर से गर्भाशय में संकुचन होने लगते हैं?

1. एच सी जी
2. एच पी एल
3. रिलैक्सिन
4. ऑक्सिटोसिन

Options :

485584157481. 1
485584157482. 2
485584157483. 3
485584157484. 4

Question Number : 207 Question Id : 48558439372 Question Type : MCQ Option Shuffling : No Is Question Mandatory : No Calculator : None Response Time : N.A Think Time : N.A Minimum Instruction Time : 0

Correct Marks : 5 Wrong Marks : 1

Question Key Details :

Key	Value
Comprehension	MCQ

What is *not* true for ZIFT?

1. Invitro fertilization take place in ZIFT
2. Zygote is formed under sterilized laboratory conditions
3. Zygote is transferred into the fallopian tube
4. ZIFT is a form of GIFT

Options :

485584157485. 1
485584157486. 2
485584157487. 3
485584157488. 4

Question Number : 207 Question Id : 48558439372 Question Type : MCQ Option Shuffling : No Is Question Mandatory : No Calculator : None Response Time : N.A Think Time : N.A Minimum Instruction Time : 0

Correct Marks : 5 Wrong Marks : 1

Question Key Details :

Key	Value
Comprehension	MCQ

जेड आई एफ टी के लिए कौन सा कथन सही नहीं है?

1. जेड आई एफ टी में पात्रे निषेचन किया जाता है।
2. प्रयोगशाला में रोगाणु रहित स्थिति में युग्मज बनाया जाता है।
3. युग्मज को डिंब वाहिनी में स्थानांतरित किया जाता है।
4. जेड आई एफ टी, जी आई एफ टी का एक रूप है।

Options :

485584157485. 1

485584157486. 2
485584157487. 3
485584157488. 4

Question Number : 208 Question Id : 48558439373 Question Type : MCQ Option Shuffling : No Is Question Mandatory : No Calculator : None
Response Time : N.A Think Time : N.A Minimum Instruction Time : 0

Correct Marks : 5 Wrong Marks : 1

Question Key Details :

Key	Value
Comprehension	MCQ

Select the diseases or infections which are transmitted through sexual contact.

- A. Gonorrhoea
- B. Hepatitis B
- C. Malaria
- D. Syphilis

Choose the correct answer from the options given below:

1. C and D only
2. A and B only
3. A, B and C only
4. A, B and D only

Options :

485584157489. 1
485584157490. 2
485584157491. 3
485584157492. 4

Question Number : 208 Question Id : 48558439373 Question Type : MCQ Option Shuffling : No Is Question Mandatory : No Calculator : None
Response Time : N.A Think Time : N.A Minimum Instruction Time : 0

Correct Marks : 5 Wrong Marks : 1

Question Key Details :

Key	Value
Comprehension	MCQ

उन बीमारियों अथवा संक्रमणों को चुनिए, जो यौन सम्पर्क द्वारा संचारित होते हैं।

- A. सुजाक
- B. यकृतशोथ-बी
- C. मलरिया
- D. सिफिलिस

नीचे दिए गए विकल्पों में से सबसे उपयुक्त उत्तर का चयन कीजिए:

1. केवल C और D
2. केवल A और B
3. केवल A, B और C केवल
4. केवल A, B और D

Options :

485584157489. 1
485584157490. 2
485584157491. 3
485584157492. 4

Question Number : 209 Question Id : 48558439374 Question Type : MCQ Option Shuffling : No Is Question Mandatory : No Calculator : None
Response Time : N.A Think Time : N.A Minimum Instruction Time : 0

Correct Marks : 5 Wrong Marks : 1

Question Key Details :

Key	Value
Comprehension	MCQ

Colour blindness is a

1. Sex linked recessive disorder
2. Sex linked dominant disorder
3. Autosomal recessive disorder
4. Autosomal recessive disorder

Options :

- 485584157493. 1
- 485584157494. 2
- 485584157495. 3
- 485584157496. 4

Question Number : 209 Question Id : 48558439374 Question Type : MCQ Option Shuffling : No Is Question Mandatory : No Calculator : None
Response Time : N.A Think Time : N.A Minimum Instruction Time : 0

Correct Marks : 5 Wrong Marks : 1

Question Key Details :

Key	Value
Comprehension	MCQ

वर्णधृता हे, एक

1. लिंग सहलग्न अप्रभावी विकार
2. लिंग सहलग्न प्रभावी विकार
3. अलिंग क्रोमोसोम अप्रभावी विकार
4. अलिंग क्रोमोसोम प्रभावी विकार

Options :

- 485584157493. 1
- 485584157494. 2
- 485584157495. 3
- 485584157496. 4

Question Number : 210 Question Id : 48558439375 Question Type : MCQ Option Shuffling : No Is Question Mandatory : No Calculator : None
Response Time : N.A Think Time : N.A Minimum Instruction Time : 0

Correct Marks : 5 Wrong Marks : 1

Question Key Details :

Key	Value
Comprehension	MCQ

The term used for the association of the two genes is.

1. Recombination
2. Linkage
3. Factors
4. Inheritance

Options :

485584157497. 1
485584157498. 2
485584157499. 3
485584157500. 4

Question Number : 210 Question Id : 48558439375 Question Type : MCQ Option Shuffling : No Is Question Mandatory : No Calculator : None
Response Time : N.A Think Time : N.A Minimum Instruction Time : 0

Correct Marks : 5 Wrong Marks : 1

Question Key Details :

Key	Value
Comprehension	MCQ

दो जीनों के भौतिक संयोग या जुड़ा होने, के लिए शब्द उपयोग किया जाता है:

1. पुनर्पौजन
2. सहलग्नता
3. कारक
4. वंशागति

Options :

485584157497. 1
485584157498. 2
485584157499. 3
485584157500. 4

Question Number : 211 Question Id : 48558439376 Question Type : MCQ Option Shuffling : No Is Question Mandatory : No Calculator : None
Response Time : N.A Think Time : N.A Minimum Instruction Time : 0

Correct Marks : 5 Wrong Marks : 1

Question Key Details :

Key	Value
Comprehension	MCQ

If a pink flowered snapdragon plant is crossed with a white flowered snapdragon plant. What will be the phenotype of their progen.

1. Only pink flowered
2. Pink, white and red flowered
3. Only white flowered
4. Pink and white flowered

Options :

485584157501. 1
485584157502. 2
485584157503. 3
485584157504. 4

Question Number : 211 Question Id : 48558439376 Question Type : MCQ Option Shuffling : No Is Question Mandatory : No Calculator : None
Response Time : N.A Think Time : N.A Minimum Instruction Time : 0

Correct Marks : 5 Wrong Marks : 1

Question Key Details :

Key	Value
Comprehension	MCQ

यदि गुलाबी फूलों वाले स्त्रेप्टोगन के पौधे का संकरण सफ़ेद फूलों वाले पौधे से कराया जाता है, तब उसकी संतति के फीनोटाइप क्या होगी?

1. केवल गुलाबी फूलों वाले पौधे
2. गुलाबी, सफ़ेद तथा लाल फूलों वाले पौधे
3. केवल सफ़ेद फूलों वाले पौधे
4. गुलाबी तथा सफ़ेद फूलों वाले पौधे

Options :

485584157501. 1
485584157502. 2
485584157503. 3
485584157504. 4

Question Number : 212 Question Id : 48558439377 Question Type : MCQ Option Shuffling : No Is Question Mandatory : No Calculator : None Response Time : N.A Think Time : N.A Minimum Instruction Time : 0

Correct Marks : 5 Wrong Marks : 1

Question Key Details :

Key	Value
Comprehension	MCQ

Which is NOT true for a molecule that can act as a genetic material?

1. It should be able to generate its replica
2. It should be chemically and structurally unstable
3. It should provide the scope for slow changes that are required for evolution
4. It should be able to express itself in the form of 'mendelian character'

Options :

485584157505. 1
485584157506. 2
485584157507. 3
485584157508. 4

Question Number : 212 Question Id : 48558439377 Question Type : MCQ Option Shuffling : No Is Question Mandatory : No Calculator : None Response Time : N.A Think Time : N.A Minimum Instruction Time : 0

Correct Marks : 5 Wrong Marks : 1

Question Key Details :

Key	Value
Comprehension	MCQ

एक अणु जो आनुवंशिक पदार्थ की तरह कार्य कर सकता है, उसके लिए कौन-सा कथन सत्य नहीं है?

1. यह अपनी प्रतिकृति बनाने में सक्षम होगा।
2. इसे रासायनिक व संरचना संगठन के आधार पर अस्थिर होना चाहिए।
3. इसमें धीमे परिवर्तनों की संभावना होती है, जो विकास के लिए आवश्यक है।
4. इसे स्वयं 'मेंडल के लक्षण' के अनुरूप अभिव्यक्त होना चाहिए

Options :

485584157505. 1
485584157506. 2
485584157507. 3
485584157508. 4

Question Number : 213 Question Id : 48558439378 Question Type : MCQ Option Shuffling : No Is Question Mandatory : No Calculator : None
Response Time : N.A Think Time : N.A Minimum Instruction Time : 0

Correct Marks : 5 Wrong Marks : 1

Question Key Details :

Key	Value
Comprehension	MCQ

Identify the statements which hold true for DNA in *E.coli*.

- A. DNA is organised in nucleoid region
- B. The length of *E.coli* DNA is 1.36 metres
- C. DNA is not scattered throughout the cell
- D. DNA is organised in large loops

Choose the correct answer from the options given below:

- 1. A, B and C only
- 2. A, B and D only
- 3. A, B, C and D only
- 4. A, C and D only

Options :

- 485584157509. 1
- 485584157510. 2
- 485584157511. 3
- 485584157512. 4

Question Number : 213 Question Id : 48558439378 Question Type : MCQ Option Shuffling : No Is Question Mandatory : No Calculator : None
Response Time : N.A Think Time : N.A Minimum Instruction Time : 0

Correct Marks : 5 Wrong Marks : 1

Question Key Details :

Key	Value
Comprehension	MCQ

उन कथनों को पहचानिए, जो ई.कोलाई के डीएनए के लिए सत्य है :

- A. डीएनए केन्द्रकाभ भाग में व्यवस्थित होता है।
- B. ई. कोलाई के डीएनए की लम्बाई 1.36 मीटर होती है।
- C. डीएनए सम्पूर्ण कोशिका में नहीं फैला होता है।
- D. डीएनए बड़े लूपों में व्यवस्थित होता है।

नीचे दिए गए विकल्पों में से सबसे उपयुक्त उत्तर का चयन कीजिए:

- 1. केवल A, B और C
- 2. केवल A, B और D
- 3. केवल A, B, C और D
- 4. केवल A, C और D

Options :

- 485584157509. 1
- 485584157510. 2
- 485584157511. 3
- 485584157512. 4

Question Number : 214 Question Id : 48558439379 Question Type : MCQ Option Shuffling : No Is Question Mandatory : No Calculator : None
Response Time : N.A Think Time : N.A Minimum Instruction Time : 0

Correct Marks : 5 Wrong Marks : 1

Question Key Details :

Key	Value
Comprehension	MCQ

Arrange the given steps of DNA finger printing technique in correct sequence.

- Isolation of DNA and its digestion by restriction endonuclease
- Separation of DNA fragments by electrophoresis
- Hybridization with labelled VNTR probe and autoradiography
- Blotting of separated DNA fragments to synthetic membrane

Choose the correct answer from the options given below:

- A, C, B, D
- A, B, D, C
- D, B, A, C
- A, B, C, D

Options :

485584157513. 1
485584157514. 2
485584157515. 3
485584157516. 4

Question Number : 214 Question Id : 48558439379 Question Type : MCQ Option Shuffling : No Is Question Mandatory : No Calculator : None
Response Time : N.A Think Time : N.A Minimum Instruction Time : 0

Correct Marks : 5 Wrong Marks : 1

Question Key Details :

Key	Value
Comprehension	MCQ

डीएनए फिंगरप्रिंटिंग तकनीक के चरण नीचे दिए गए हैं, उन्हें सही क्रम में व्यवस्थित कीजिए ।

- डीएनए का विलगन तथा प्रतिबंधन एंडोन्यूक्लिएज द्वारा पाचन
- इलेक्ट्रोफोरेसिस द्वारा डीएनए खंडों का पृथक्करण
- चिह्नित वी एन टी आर प्रोब का उपयोग करते हुए संकरण व स्वविकिरणी चित्रण
- पृथक्कृत डीएनए खण्डों का संश्लेषित झिल्ली पर ब्लाटिंग

नीचे दिए गए विकल्पों में से सही उत्तर का चयन कीजिए

- A, C, B, D
- A, B, D, C
- D, B, A, C
- A, B, C, D

Options :

485584157513. 1
485584157514. 2
485584157515. 3
485584157516. 4

Question Number : 215 Question Id : 48558439380 Question Type : MCQ Option Shuffling : No Is Question Mandatory : No Calculator : None
Response Time : N.A Think Time : N.A Minimum Instruction Time : 0

Correct Marks : 5 Wrong Marks : 1

Question Key Details :

Key	Value
Comprehension	MCQ

The brain capacity of the Neanderthal man was.

1. 800 cc
2. 1400 cc
3. 900 cc
4. 500 cc

Options :

485584157517. 1
485584157518. 2
485584157519. 3
485584157520. 4

Question Number : 215 Question Id : 48558439380 Question Type : MCQ Option Shuffling : No Is Question Mandatory : No Calculator : None Response Time : N.A Think Time : N.A Minimum Instruction Time : 0

Correct Marks : 5 Wrong Marks : 1

Question Key Details :

Key	Value
Comprehension	MCQ

नियंत्रित मानव की मस्तिष्क क्षमता थी:

1. 800 सी सी
2. 1400 सी सी
3. 900 सी सी
4. 500 सी सी

Options :

485584157517. 1
485584157518. 2
485584157519. 3
485584157520. 4

Question Number : 216 Question Id : 48558439381 Question Type : MCQ Option Shuffling : No Is Question Mandatory : No Calculator : None Response Time : N.A Think Time : N.A Minimum Instruction Time : 0

Correct Marks : 5 Wrong Marks : 1

Question Key Details :

Key	Value
Comprehension	MCQ

Which of the following experimentally demonstrated that life comes only from pre-existing life?

1. Alfred Wallace
2. Hugo de Vries
3. Louis Pasteur
4. S.L Miller

Options :

485584157521. 1
485584157522. 2
485584157523. 3
485584157524. 4

Question Number : 216 Question Id : 48558439381 Question Type : MCQ Option Shuffling : No Is Question Mandatory : No Calculator : None

Response Time : N.A Think Time : N.A Minimum Instruction Time : 0

Correct Marks : 5 Wrong Marks : 1

Question Key Details :

Key	Value
Comprehension	MCQ

निम्नलिखित में से किसने प्रयोगात्मक रूप से प्रदर्शित किया कि जीवन पहले से विद्यमान जीवन से निकलकर आता है?

1. एल्फ्रेड वॉलेस
2. ह्यूगो डीवरीज
3. लुई पाश्चर
4. एस.एल. मिलर

Options :

485584157521. 1
485584157522. 2
485584157523. 3
485584157524. 4

Question Number : 217 Question Id : 48558439382 Question Type : MCQ Option Shuffling : No Is Question Mandatory : No Calculator : None
Response Time : N.A Think Time : N.A Minimum Instruction Time : 0

Correct Marks : 5 Wrong Marks : 1

Question Key Details :

Key	Value
Comprehension	MCQ

Match List I with List II

LIST I		LIST II	
A.	Tendrils of <i>cucurbita</i> and thorns of <i>Bougainvillea</i>	I.	Convergent evolution
B.	Sweet potato and potato	II.	Adaptive radiation
C.	Evening prime rose	III.	Divergent evolution
D.	Darwin finches	IV.	Mutation

Choose the correct answer from the options given below:

1. A-III, B-I, C-IV, D-II
2. A-II, B-IV, C-I, D-III
3. A-IV, B-II, C-III, D-I
4. A-I, B-III, C-II, D-IV

Options :

485584157525. 1
485584157526. 2
485584157527. 3
485584157528. 4

Question Number : 217 Question Id : 48558439382 Question Type : MCQ Option Shuffling : No Is Question Mandatory : No Calculator : None
Response Time : N.A Think Time : N.A Minimum Instruction Time : 0

Correct Marks : 5 Wrong Marks : 1

Question Key Details :

Key	Value
Comprehension	MCQ

सूची I का सूची II से मिलान कीजिए

सूची I		सूची II	
A.	ब्यूकरबिट्टा का प्रतान तथा बोगेनविलिया का काँटा	I.	अभिन्सारी विकास
B.	शरकंद तथा आलू	II.	अनुकूली विकिरण
C.	इवनिंग प्राइमरोज	III.	अपसारी विकास
D.	डाविन फिच	IV.	उत्परिवर्तन

निम्नलिखित विकल्पों में से सही उत्तर का चयन कीजिए :

1. A-III, B-I, C-IV, D-II
2. A-II, B-IV, C-I, D-III
3. A-IV, B-II, C-III, D-I
4. A-I, B-III, C-II, D-IV

Options :

485584157525. 1
485584157526. 2
485584157527. 3
485584157528. 4

Question Number : 218 Question Id : 48558439383 Question Type : MCQ Option Shuffling : No Is Question Mandatory : No Calculator : None Response Time : N.A Think Time : N.A Minimum Instruction Time : 0

Correct Marks : 5 Wrong Marks : 1

Question Key Details :

Key	Value
Comprehension	MCQ

Opioids are obtained from the plant.

1. *Cannabis sativa*
2. *Erythroxylum coca*
3. *Papaver somniferum*
4. *Atropa belladonna*

Options :

485584157529. 1
485584157530. 2
485584157531. 3
485584157532. 4

Question Number : 218 Question Id : 48558439383 Question Type : MCQ Option Shuffling : No Is Question Mandatory : No Calculator : None Response Time : N.A Think Time : N.A Minimum Instruction Time : 0

Correct Marks : 5 Wrong Marks : 1

Question Key Details :

Key	Value
Comprehension	MCQ

ओपिऑइड्स किस पौधे से प्राप्त होता है?

1. कैनेबिस सैटाइवा
2. ऐरिथ्रोजाइलम कोका
3. पैपेवर सोम्नीफेरम
4. ऐट्रोपा बेलेडोना

Options :

485584157529. 1
485584157530. 2
485584157531. 3
485584157532. 4

Question Number : 219 Question Id : 48558439384 Question Type : MCQ Option Shuffling : No Is Question Mandatory : No Calculator : None Response Time : N.A Think Time : N.A Minimum Instruction Time : 0

Correct Marks : 5 Wrong Marks : 1

Question Key Details :

Key	Value
Comprehension	MCQ

Select the Physiological barrier(s) for innate immunity?

- A. Mucus coating of the epithelium lining of respiratory tract
- B. Acid in the stomach
- C. Tears in the eyes
- D. Saliva in the mouth

Choose the correct answer from the options given below:

1. A and B only
2. B, C and D only
3. A and D only
4. A, C and D only

Options :

485584157533. 1
485584157534. 2
485584157535. 3
485584157536. 4

Question Number : 219 Question Id : 48558439384 Question Type : MCQ Option Shuffling : No Is Question Mandatory : No Calculator : None Response Time : N.A Think Time : N.A Minimum Instruction Time : 0

Correct Marks : 5 Wrong Marks : 1

Question Key Details :

Key	Value
Comprehension	MCQ

सहज प्रतिरक्षा के लिए कार्याधीय रोध (फिजियोलॉजिकल) रोध (बैरिअर) चुनिए :

- A. श्वसन नलिका को आस्तरित करने वाली एपिथेलियम का श्लेष्मा आलेप
- B. आमाशय में अम्ल
- C. आँखों में आँसू
- D. मुँह में लार

नीचे दिए गए विकल्पों में से सबसे उपयुक्त उत्तर का चयन कीजिए:

- 1. केवल A और B
- 2. केवल B, C और D
- 3. केवल A और D
- 4. केवल A, C और D

Options :

- 485584157533. 1
- 485584157534. 2
- 485584157535. 3
- 485584157536. 4

Question Number : 220 Question Id : 48558439385 Question Type : MCQ Option Shuffling : No Is Question Mandatory : No Calculator : None Response Time : N.A Think Time : N.A Minimum Instruction Time : 0

Correct Marks : 5 Wrong Marks : 1

Question Key Details :

Key	Value
Comprehension	MCQ

Arrange the given statements in correct sequence of their occurrence in replication of retrovirus.

- A. Viral DNA incorporates into host genome
- B. Virus infects normal cell
- C. Viral DNA is produced by reverse transcriptase
- D. New viral RNA is produced by the infected cell

Choose the correct answer from the options given below:

- 1. A, B, C, D
- 2. B, C, A, D
- 3. A, C, B, D
- 4. A, B, D, C

Options :

- 485584157537. 1
- 485584157538. 2
- 485584157539. 3
- 485584157540. 4

Question Number : 220 Question Id : 48558439385 Question Type : MCQ Option Shuffling : No Is Question Mandatory : No Calculator : None Response Time : N.A Think Time : N.A Minimum Instruction Time : 0

Correct Marks : 5 Wrong Marks : 1

Question Key Details :

Key	Value
Comprehension	MCQ

रेट्रोवायरस की प्रतिकृति के चरणों के लिए दिए गये कथनों को सही क्रम में व्यवस्थित कीजिए:

- विषाणवीय डीएनए परपोषी जीनोम में समाविष्ट
- विषाणु सामान्य कोशिका को संक्रमित करता है।
- प्रतीप ट्रांसक्रिप्शन द्वारा विषाणवीय डीएनए उत्पन्न करना
- संक्रमित कोशिका द्वारा विषाणवीय आरएनए उत्पन्न करना

नीचे दिए गए विकल्पों में से सही उत्तर का चयन कीजिए:

- A, B, C, D
- B, C, A, D
- A, C, B, D
- A, B, D, C

Options :

485584157537. 1
485584157538. 2
485584157539. 3
485584157540. 4

Question Number : 221 Question Id : 48558439386 Question Type : MCQ Option Shuffling : No Is Question Mandatory : No Calculator : None
Response Time : N.A Think Time : N.A Minimum Instruction Time : 0

Correct Marks : 5 Wrong Marks : 1

Question Key Details :

Key	Value
Comprehension	MCQ

Which of the following is not used single cell protein (SCP)?

- Methylophilus methylotrophus*
- Chlorella*
- Spirulina*
- Gracilaria*

Options :

485584157541. 1
485584157542. 2
485584157543. 3
485584157544. 4

Question Number : 221 Question Id : 48558439386 Question Type : MCQ Option Shuffling : No Is Question Mandatory : No Calculator : None
Response Time : N.A Think Time : N.A Minimum Instruction Time : 0

Correct Marks : 5 Wrong Marks : 1

Question Key Details :

Key	Value
Comprehension	MCQ

निम्नलिखित में, कौन सा एकल कोशिका प्रोटीन (एस सी पी) के रूप में उपयोग नहीं किया जाता है?

- मिथायलोफिलस मिथायलोट्रोफस*
- क्लॉरेला*
- स्प्राइरुलाइना*
- फिसिरेलेरिया*

Options :

- 485584157541. 1
- 485584157542. 2
- 485584157543. 3
- 485584157544. 4

Question Number : 222 Question Id : 48558439387 Question Type : MCQ Option Shuffling : No Is Question Mandatory : No Calculator : None
Response Time : N.A Think Time : N.A Minimum Instruction Time : 0

Correct Marks : 5 Wrong Marks : 1

Question Key Details :

Key	Value
Comprehension	MCQ

Bee-keeping is also known as.

- 1. Apiculture
- 2. Sericulture
- 3. Pisciculture
- 4. Agriculture

Options :

- 485584157545. 1
- 485584157546. 2
- 485584157547. 3
- 485584157548. 4

Question Number : 222 Question Id : 48558439387 Question Type : MCQ Option Shuffling : No Is Question Mandatory : No Calculator : None
Response Time : N.A Think Time : N.A Minimum Instruction Time : 0

Correct Marks : 5 Wrong Marks : 1

Question Key Details :

Key	Value
Comprehension	MCQ

मधुमखड़ी पालन इस नाम से भी जाना जाता है।

- 1. मौन पालन
- 2. रेशम कीटपालन
- 3. मत्स्यपालन
- 4. कृषि

Options :

- 485584157545. 1
- 485584157546. 2
- 485584157547. 3
- 485584157548. 4

Question Number : 223 Question Id : 48558439388 Question Type : MCQ Option Shuffling : No Is Question Mandatory : No Calculator : None
Response Time : N.A Think Time : N.A Minimum Instruction Time : 0

Correct Marks : 5 Wrong Marks : 1

Question Key Details :

Key	Value
Comprehension	MCQ

Match List I with List II

LIST I		LIST II	
A.	<i>Pusa Sadabahar</i>	I.	Cowpea
B.	<i>Pusa Komal</i>	II.	Chilli
C.	<i>Pusa Swarnim</i>	III.	Oleum
D.	<i>Pusa Sawani</i>	IV.	Brassica

Choose the correct answer from the options given below:

1. A-I, B-II, C-III, D-IV
2. A-II, B-I, C-IV, D-III
3. A-II, B-III, C-IV, D-I
4. A-IV, B-III, C-II, D-I

Options :

485584157549. 1
485584157550. 2
485584157551. 3
485584157552. 4

Question Number : 223 Question Id : 48558439388 Question Type : MCQ Option Shuffling : No Is Question Mandatory : No Calculator : None Response Time : N.A Think Time : N.A Minimum Instruction Time : 0

Correct Marks : 5 Wrong Marks : 1

Question Key Details :

Key	Value
Comprehension	MCQ

सूची I का सूची II से मिलान कीजिए

सूची I किस्म	सूची II फसल/शस्य
A. पूसा सदाबहार	I. तोविया
B. पूसा कोमत	II. मिर्च
C. पूसा स्वर्णम	III. भिंडी
D. पूसा स्वामी	IV. सरसों

निम्नलिखित विकल्पों में से सही उत्तर का चयन कीजिए :

1. A-I, B-II, C-III, D-IV
2. A-II, B-I, C-IV, D-III
3. A-II, B-III, C-IV, D-I
4. A-IV, B-III, C-II, D-I

Options :

485584157549. 1
485584157550. 2
485584157551. 3
485584157552. 4

Question Number : 224 Question Id : 48558439389 Question Type : MCQ Option Shuffling : No Is Question Mandatory : No Calculator : None Response Time : N.A Think Time : N.A Minimum Instruction Time : 0

Correct Marks : 5 Wrong Marks : 1

Question Key Details :

Key	Value
Comprehension	MCQ

Which of the following microbe is used for making bread?

1. *Propionibacterium shermanii*
2. *Saccharomyces cerevisiae*
3. *Aspergillus niger*
4. *Trichoderma Polysporum*

Options :

485584157553. 1
485584157554. 2
485584157555. 3
485584157556. 4

Question Number : 224 Question Id : 48558439389 Question Type : MCQ Option Shuffling : No Is Question Mandatory : No Calculator : None
Response Time : N.A Think Time : N.A Minimum Instruction Time : 0

Correct Marks : 5 Wrong Marks : 1

Question Key Details :

Key	Value
Comprehension	MCQ

ब्रेड बनाने के लिए, निम्नलिखित में से कौनसा सूक्ष्म जीव उपयोग किया जाता है?

1. प्रोपियोनिबैक्टीरियम शारमैनार्ड
2. सैकरोमाइसीज सेरीवीसी
3. ऐस्पेरजिलस नाइगर
4. ट्रिचोडेरमा पॉलीस्पोरम

Options :

485584157553. 1
485584157554. 2
485584157555. 3
485584157556. 4

Question Number : 225 Question Id : 48558439390 Question Type : MCQ Option Shuffling : No Is Question Mandatory : No Calculator : None
Response Time : N.A Think Time : N.A Minimum Instruction Time : 0

Correct Marks : 5 Wrong Marks : 1

Question Key Details :

Key	Value
Comprehension	MCQ

Baculoviruses attack on.

1. Birds
2. Arthropods
3. Mammals
4. Fishes

Options :

485584157557. 1
485584157558. 2
485584157559. 3
485584157560. 4

Question Number : 225 Question Id : 48558439390 Question Type : MCQ Option Shuffling : No Is Question Mandatory : No Calculator : None
Response Time : N.A Think Time : N.A Minimum Instruction Time : 0

Correct Marks : 5 Wrong Marks : 1

Question Key Details :

Key	Value
Comprehension	MCQ

बैक्टीरियोलायसेसिस हमला करते हैं :

1. चिड़ियों पर
2. संधिपादों (आर्थ्रोपोडों) पर
3. स्तनधारियों पर
4. मछलियों पर

Options :

485584157557. 1
485584157558. 2
485584157559. 3
485584157560. 4

Question Number : 226 Question Id : 48558439391 Question Type : MCQ Option Shuffling : No Is Question Mandatory : No Calculator : None
Response Time : N.A Think Time : N.A Minimum Instruction Time : 0

Correct Marks : 5 Wrong Marks : 1

Question Key Details :

Key	Value
Comprehension	MCQ

Match List I with List II

LIST I		LIST II	
A.	<i>Methanobacterium</i>	I.	Butyric acid
B.	<i>Monascus purpureus</i>	II.	Break down of cellulose
C.	<i>Clostridium butyricum</i>	III.	Clot buster
D.	<i>Streptococcus</i>	IV.	Blood-cholesterol lowering agent

Choose the correct answer from the options given below:

1. A-I, B-II, C-III, D-IV
2. A-II, B-I, C-III, D-IV
3. A-II, B-IV, C-I, D-III
4. A-I, B-III, C-II, D-IV

Options :

485584157561. 1
485584157562. 2
485584157563. 3
485584157564. 4

Question Number : 226 Question Id : 48558439391 Question Type : MCQ Option Shuffling : No Is Question Mandatory : No Calculator : None
Response Time : N.A Think Time : N.A Minimum Instruction Time : 0

Correct Marks : 5 Wrong Marks : 1

Question Key Details :

Key	Value
Comprehension	MCQ

सूची I का सूची II से मिलान कीजिए

सूची I सूक्ष्मजीव	सूची II उत्पाद/उपयोग
A. <i>मैथिनोबैक्टीरियम</i>	I. ब्यूटिक अम्ल
B. <i>मॉनोस्किस परप्पूरीअस</i>	II. सैल्यूतोस को तोड़ना
C. <i>क्लोस्ट्रीडियम ब्यूटातिकम</i>	III. धक्का स्फोटन
D. <i>स्ट्रेप्टोकोकस</i>	IV. रक्त कोलेस्ट्रॉल को कम करने वाला कारक

निम्नलिखित विकल्पों में से सही उत्तर का चयन कीजिए :

1. A-I, B-II, C-III, D-IV
2. A-II, B-I, C-III, D-IV
3. A-II, B-IV, C-I, D-III
4. A-I, B-III, C-II, D-IV

Options :

485584157561. 1
485584157562. 2
485584157563. 3
485584157564. 4

Question Number : 227 Question Id : 48558439392 Question Type : MCQ Option Shuffling : No Is Question Mandatory : No Calculator : None Response Time : N.A Think Time : N.A Minimum Instruction Time : 0

Correct Marks : 5 Wrong Marks : 1

Question Key Details :

Key	Value
Comprehension	MCQ

The thermostable the enzyme used in PCR is.

1. *Taq polymerase*
2. Exonuclease
3. RNA polymerase
4. Endonuclease

Options :

485584157565. 1
485584157566. 2
485584157567. 3
485584157568. 4

Question Number : 227 Question Id : 48558439392 Question Type : MCQ Option Shuffling : No Is Question Mandatory : No Calculator : None Response Time : N.A Think Time : N.A Minimum Instruction Time : 0

Correct Marks : 5 Wrong Marks : 1

Question Key Details :

Key	Value
Comprehension	MCQ

तापस्थायी एंजाइम, जिसका उपयोग पीसीआर में किया जाता है :

1. टैक पॉलीमरेज
2. एक्सो न्यूक्लिएज
3. आरएनए पॉलीमरेज
4. एंडोन्यूक्लिएज

Options :

485584157565. 1
485584157566. 2
485584157567. 3
485584157568. 4

Question Number : 228 Question Id : 48558439393 Question Type : MCQ Option Shuffling : No Is Question Mandatory : No Calculator : None Response Time : N.A Think Time : N.A Minimum Instruction Time : 0

Correct Marks : 5 Wrong Marks : 1

Question Key Details :

Key	Value
Comprehension	MCQ

Arrange the steps of 'Agarose gel electrophoresis' in the correct sequence.

- A. Cutting of bands of DNA from agarose gel
- B. Visualisation of DNA fragments under UV radiation
- C. Staining of DNA fragments with ethidium bromide
- D. Movement of DNA fragments towards anode under electric field

Choose the correct answer from the options given below:

1. A, B, C, D
2. D, C, B, A
3. C, B, A, D
4. B, D, C, A

Options :

485584157569. 1
485584157570. 2
485584157571. 3
485584157572. 4

Question Number : 228 Question Id : 48558439393 Question Type : MCQ Option Shuffling : No Is Question Mandatory : No Calculator : None Response Time : N.A Think Time : N.A Minimum Instruction Time : 0

Correct Marks : 5 Wrong Marks : 1

Question Key Details :

Key	Value
Comprehension	MCQ

एगारोज जेल इलेक्ट्रोफोरेसिस के चरणों को सही क्रम में व्यवस्थित कीजिए :

- A. एगारोज जेल से डीएनए की पट्टियां काटना
- B. डीएनए खंडों को पराबैंगनी (यूवी) प्रकाश में देखना
- C. डीएनए खंडों को इथीडियम ब्रोमाइड में अभिरंजित करना
- D. विद्युत् क्षेत्र में डीएनए खंडों का एनोड की ओर चलना

नीचे दिए गए विकल्पों में से सही उत्तर का चयन कीजिए

- 1. A, B, C, D
- 2. D, C, B, A
- 3. C, B, A, D
- 4. B, D, C, A

Options :

- 485584157569. 1
- 485584157570. 2
- 485584157571. 3
- 485584157572. 4

Question Number : 229 Question Id : 48558439394 Question Type : MCQ Option Shuffling : No Is Question Mandatory : No Calculator : None Response Time : N.A Think Time : N.A Minimum Instruction Time : 0

Correct Marks : 5 Wrong Marks : 1

Question Key Details :

Key	Value
Comprehension	MCQ

Identify the correct statements regarding features of a vector.

- A. They should have ability to replicate within the host
- B. They should have 'ori' sites that start replication
- C. Its origin should not support high copy number
- D. They should have more than one recognition sites for restriction enzymes

Choose the correct answer from the options given below:

- 1. C and D only
- 2. A, B and C only
- 3. A and B only
- 4. B, C and D only

Options :

- 485584157573. 1
- 485584157574. 2
- 485584157575. 3
- 485584157576. 4

Question Number : 229 Question Id : 48558439394 Question Type : MCQ Option Shuffling : No Is Question Mandatory : No Calculator : None Response Time : N.A Think Time : N.A Minimum Instruction Time : 0

Correct Marks : 5 Wrong Marks : 1

Question Key Details :

Key	Value
Comprehension	MCQ

क्लॉनिंग सँवाहक की विशेषताओं से सम्बन्धित सही कथनों को पहचानिए;

- A. परपोषी कोशिकाओं के अंदर प्रतिकृति कर सकता हो।
- B. उनमें मूल (ऑरी) स्थल होने चाहिए, जहाँ से प्रतिकृतियन की शुरुआत होती है।
- C. इनका मूल (ऑरी) अत्यधिक प्रतिरूप बनाने में सहयोग नहीं करता हो।
- D. उनमें प्रतिबन्धन एंजाइम के लिए, बहुत अधिक पहचान स्थल होने चाहिए।

नीचे दिए गए विकल्पों में से सही उत्तर का चयन कीजिए

- 1. केवल C और D
- 2. केवल A, B और C
- 3. केवल A और B
- 4. केवल B, C और D

Options :

- 485584157573. 1
- 485584157574. 2
- 485584157575. 3
- 485584157576. 4

Question Number : 230 Question Id : 48558439395 Question Type : MCQ Option Shuffling : No Is Question Mandatory : No Calculator : None Response Time : N.A Think Time : N.A Minimum Instruction Time : 0

Correct Marks : 5 Wrong Marks : 1

Question Key Details :

Key	Value
Comprehension	MCQ

Which technique is used to insert recombinant DNA into the nucleus of an animal cell?

- 1. Gene gun
- 2. Insertion push
- 3. Ligation
- 4. Microinjection

Options :

- 485584157577. 1
- 485584157578. 2
- 485584157579. 3
- 485584157580. 4

Question Number : 230 Question Id : 48558439395 Question Type : MCQ Option Shuffling : No Is Question Mandatory : No Calculator : None Response Time : N.A Think Time : N.A Minimum Instruction Time : 0

Correct Marks : 5 Wrong Marks : 1

Question Key Details :

Key	Value
Comprehension	MCQ

किस तकनीक द्वारा पुनर्व्यंजन डीएनए को सीधे जन्तु कोशिका के केन्द्रक के अंदर अंतःक्षेपित किया जा सकता है?

1. बापोलिस्टीक (जीनगन)
2. निवेशन कर्ष
3. साइगेसन
4. सूक्ष्म अंतःक्षेपण (माइक्रो इंजेक्शन)

Options :

485584157577. 1
485584157578. 2
485584157579. 3
485584157580. 4

Question Number : 231 Question Id : 48558439396 Question Type : MCQ Option Shuffling : No Is Question Mandatory : No Calculator : None Response Time : N.A Think Time : N.A Minimum Instruction Time : 0

Correct Marks : 5 Wrong Marks : 1

Question Key Details :

Key	Value
Comprehension	MCQ

RNA interference process occurs in _____ as a method of cellular defense

1. Prokaryotes only
2. Unicellular eukaryotes
3. Multicellular eukaryotes
4. All eukaryotes

Options :

485584157581. 1
485584157582. 2
485584157583. 3
485584157584. 4

Question Number : 231 Question Id : 48558439396 Question Type : MCQ Option Shuffling : No Is Question Mandatory : No Calculator : None Response Time : N.A Think Time : N.A Minimum Instruction Time : 0

Correct Marks : 5 Wrong Marks : 1

Question Key Details :

Key	Value
Comprehension	MCQ

आरएनए अंतरक्षेप _____ कोशिकीय सुरक्षा की एक विधि है।

1. प्राक्केन्द्रकी जीवों में
2. एक कोशिकीय सस्यमकेन्द्रकी जीवों में
3. बहुकोशिकीय सस्यमकेन्द्रकी जीवों में
4. सभी सस्यमकेन्द्रकी जीवों में

Options :

485584157581. 1
485584157582. 2
485584157583. 3
485584157584. 4

Question Number : 232 Question Id : 48558439397 Question Type : MCQ Option Shuffling : No Is Question Mandatory : No Calculator : None Response Time : N.A Think Time : N.A Minimum Instruction Time : 0

Correct Marks : 5 Wrong Marks : 1

Question Key Details :

Key	Value
Comprehension	MCQ

In which year an American company got patent rights on Basmati rice through US patent and trademark office.

1. 1987
2. 2010
3. 1995
4. 1997

Options :

485584157585. 1
485584157586. 2
485584157587. 3
485584157588. 4

Question Number : 232 Question Id : 48558439397 Question Type : MCQ Option Shuffling : No Is Question Mandatory : No Calculator : None Response Time : N.A Think Time : N.A Minimum Instruction Time : 0

Correct Marks : 5 Wrong Marks : 1

Question Key Details :

Key	Value
Comprehension	MCQ

किस वर्ष में एक अमरीकी कंपनी ने बासमती धान पर अमेरिकन एक्सव व ट्रेडमार्क कार्यालय द्वारा एक्सव अधिकार प्राप्त कर लिया था?

1. 1987
2. 2010
3. 1995
4. 1997

Options :

485584157585. 1
485584157586. 2
485584157587. 3
485584157588. 4

Question Number : 233 Question Id : 48558439398 Question Type : MCQ Option Shuffling : No Is Question Mandatory : No Calculator : None Response Time : N.A Think Time : N.A Minimum Instruction Time : 0

Correct Marks : 5 Wrong Marks : 1

Question Key Details :

Key	Value
Comprehension	MCQ

In a laboratory, if 50 *Drosophila* out of a population of 250 die in a week then the death rate of *Drosophila* is _____ individual per *Drosophila* per week.

1. 0.2
2. 2.0
3. 5.0
4. 0.5

Options :

485584157589. 1
 485584157590. 2
 485584157591. 3
 485584157592. 4

Question Number : 233 Question Id : 48558439398 Question Type : MCQ Option Shuffling : No Is Question Mandatory : No Calculator : None
 Response Time : N.A Think Time : N.A Minimum Instruction Time : 0

Correct Marks : 5 Wrong Marks : 1

Question Key Details :

Key	Value
Comprehension	MCQ

एक प्रयोगशाला में ड्रोसोफिला की 250 की जनसंख्या में यदि 50 ड्रोसोफिला की मृत्यु एक सप्ताह में हो गई, तब ड्रोसोफिला की मृत्यु दर _____ व्यक्ति प्रति ड्रोसोफिला प्रति सप्ताह है:

1. 0.2
 2. 2.0
 3. 5.0
 4. 0.5

Options :

485584157589. 1
 485584157590. 2
 485584157591. 3
 485584157592. 4

Question Number : 234 Question Id : 48558439399 Question Type : MCQ Option Shuffling : No Is Question Mandatory : No Calculator : None
 Response Time : N.A Think Time : N.A Minimum Instruction Time : 0

Correct Marks : 5 Wrong Marks : 1

Question Key Details :

Key	Value
Comprehension	MCQ

Match List I with List II

LIST I Name of Interaction		LIST II Example	
A.	Commensalism	I.	Fig species and wasp
B.	Mutualism	II.	Sea anemone and Clown fish
C.	Competition	III.	Ascaris and human
D.	Parasitism	IV.	Abingdon tortoise and goat in Galapagos islands

Choose the correct answer from the options given below:

1. A-I, B-II, C-III, D-IV
 2. A-I, B-III, C-II, D-IV
 3. A-II, B-I, C-IV, D-III
 4. A-II, B-III, C-IV, D-I

Options :

485584157593. 1
 485584157594. 2
 485584157595. 3
 485584157596. 4

Question Number : 234 Question Id : 48558439399 Question Type : MCQ Option Shuffling : No Is Question Mandatory : No Calculator : None
 Response Time : N.A Think Time : N.A Minimum Instruction Time : 0

Correct Marks : 5 Wrong Marks : 1

Question Key Details :

Key	Value
Comprehension	MCQ

सूची I का सूची II से मिलान कीजिए

सूची I		सूची II	
A.	सहभोजिता	I.	अजीर और बर
B.	सहोपकारिता	II.	समुद्री एनिमोन और क्वाउन मछली
C.	स्पर्धा	III.	ऐस्केरिस और मानव
D.	परजीविता	IV.	गैलापैगो द्वीप में एडिग्डन कछुआ और बकरी

निम्नलिखित विकल्पों में से सही उत्तर का चयन कीजिए :

1. A-I, B-II, C-III, D-IV
2. A-I, B-III, C-II, D-IV
3. A-II, B-I, C-IV, D-III
4. A-II, B-III, C-IV, D-I

Options :

485584157593. 1
485584157594. 2
485584157595. 3
485584157596. 4

Question Number : 235 Question Id : 48558439400 Question Type : MCQ Option Shuffling : No Is Question Mandatory : No Calculator : None
Response Time : N.A Think Time : N.A Minimum Instruction Time : 0

Correct Marks : 5 Wrong Marks : 1

Question Key Details :

Key	Value
Comprehension	MCQ

When a snake eats a rat, that feeds on leaves of green plants. The snake is a _____ in the food chain?

1. Primary consumer
2. Secondary consumer
3. Tertiary consumer
4. Secondary carnivores

Options :

485584157597. 1
485584157598. 2
485584157599. 3
485584157600. 4

Question Number : 235 Question Id : 48558439400 Question Type : MCQ Option Shuffling : No Is Question Mandatory : No Calculator : None
Response Time : N.A Think Time : N.A Minimum Instruction Time : 0

Correct Marks : 5 Wrong Marks : 1

Question Key Details :

Key	Value
Comprehension	MCQ

जब एक साँप, उस चूहे को खाता है, जो पीठों की हरी पत्तियों को खाता है, तो इस खाद्य श्रृंखला में साँप _____ है।

1. प्राथमिक उपभोक्ता
2. द्वितीयक उपभोक्ता
3. तृतीयक उपभोक्ता
4. द्वितीयक मांसाहारी

Options :

485584157597. 1
485584157598. 2
485584157599. 3
485584157600. 4

Question Number : 236 Question Id : 48558439401 Question Type : MCQ Option Shuffling : No Is Question Mandatory : No Calculator : None Response Time : N.A Think Time : N.A Minimum Instruction Time : 0

Correct Marks : 5 Wrong Marks : 1

Question Key Details :

Key	Value
Comprehension	MCQ

In an ecosystem, the vertical distribution of different species occupying different levels is called.

1. Seral stage
2. Stratification
3. Trophic level
4. Standing crop

Options :

485584157601. 1
485584157602. 2
485584157603. 3
485584157604. 4

Question Number : 236 Question Id : 48558439401 Question Type : MCQ Option Shuffling : No Is Question Mandatory : No Calculator : None Response Time : N.A Think Time : N.A Minimum Instruction Time : 0

Correct Marks : 5 Wrong Marks : 1

Question Key Details :

Key	Value
Comprehension	MCQ

एक परितंत्र में विभिन्न प्रजातियों के ऊर्चाधर वितरण को कहते हैं :

1. क्रम की अवस्था
2. स्तर विन्यास
3. पोषक स्तर
4. स्थित शस्य

Options :

485584157601. 1
485584157602. 2
485584157603. 3
485584157604. 4

Question Number : 237 Question Id : 48558439402 Question Type : MCQ Option Shuffling : No Is Question Mandatory : No Calculator : None
Response Time : N.A Think Time : N.A Minimum Instruction Time : 0

Correct Marks : 5 Wrong Marks : 1

Question Key Details :

Key	Value
Comprehension	MCQ

The "Rivet Popper Hypothesis" was given by.

1. Alexander von Humboldt
2. Paul Ehrlich
3. Edward Wilson
4. David Tilman

Options :

- 485584157605. 1
- 485584157606. 2
- 485584157607. 3
- 485584157608. 4

Question Number : 237 Question Id : 48558439402 Question Type : MCQ Option Shuffling : No Is Question Mandatory : No Calculator : None
Response Time : N.A Think Time : N.A Minimum Instruction Time : 0

Correct Marks : 5 Wrong Marks : 1

Question Key Details :

Key	Value
Comprehension	MCQ

रिवेट पोपर परिकल्पना किसके द्वारा दी गई थी?

1. एलेक्जेंडर हम्बोल्ट
2. पॉल एहरलिक
3. एडवर्ड विलसन
4. डेविड टिलमैन

Options :

- 485584157605. 1
- 485584157606. 2
- 485584157607. 3
- 485584157608. 4

Question Number : 238 Question Id : 48558439403 Question Type : MCQ Option Shuffling : No Is Question Mandatory : No Calculator : None
Response Time : N.A Think Time : N.A Minimum Instruction Time : 0

Correct Marks : 5 Wrong Marks : 1

Question Key Details :

Key	Value
Comprehension	MCQ

Select the example of Ex-situ conservation from the following

1. National park
2. Sacred groves
3. Botanical garden
4. Biosphere reserves

Options :

485584157609. 1
485584157610. 2
485584157611. 3
485584157612. 4

Question Number : 238 Question Id : 48558439403 Question Type : MCQ Option Shuffling : No Is Question Mandatory : No Calculator : None Response Time : N.A Think Time : N.A Minimum Instruction Time : 0

Correct Marks : 5 Wrong Marks : 1

Question Key Details :

Key	Value
Comprehension	MCQ

निम्नलिखित में से बाह्य स्थाने संरक्षण का उदाहरण चुनिए :

1. राष्ट्रीय उद्यान
2. पवित्र उपवन
3. वनस्पतिघ उद्यान
4. जीवमंडल आरक्षितियाँ

Options :

485584157609. 1
485584157610. 2
485584157611. 3
485584157612. 4

Question Number : 239 Question Id : 48558439404 Question Type : MCQ Option Shuffling : No Is Question Mandatory : No Calculator : None Response Time : N.A Think Time : N.A Minimum Instruction Time : 0

Correct Marks : 5 Wrong Marks : 1

Question Key Details :

Key	Value
Comprehension	MCQ

Which of the following has highest level of DDT in an aquatic food chain?

1. Water
2. Zooplankton
3. Duck
4. Fish

Options :

485584157613. 1
485584157614. 2
485584157615. 3
485584157616. 4

Question Number : 239 Question Id : 48558439404 Question Type : MCQ Option Shuffling : No Is Question Mandatory : No Calculator : None Response Time : N.A Think Time : N.A Minimum Instruction Time : 0

Correct Marks : 5 Wrong Marks : 1

Question Key Details :

Key	Value
Comprehension	MCQ

एक जलीय खाद्य श्रृंखला में, निम्नलिखित में किसमें डी डी टी का स्तर सर्वाधिक होगा?

1. जल
2. प्राणिप्लवक
3. बत्तख
4. मछली

Options :

485584157613. 1
485584157614. 2
485584157615. 3
485584157616. 4

Question Number : 240 Question Id : 48558439405 Question Type : MCQ Option Shuffling : No Is Question Mandatory : No Calculator : None Response Time : N.A Think Time : N.A Minimum Instruction Time : 0

Correct Marks : 5 Wrong Marks : 1

Question Key Details :

Key	Value
Comprehension	MCQ

Match List I with List II

LIST I		LIST II	
A.	Green house gases	I.	Snow Blindness
B.	Electrostatic precipitator	II.	Unleaded petrol
C.	Catalytic converter	III.	Thermal power plant
D.	UV_B radiation	IV.	Global warming

Choose the correct answer from the options given below:

1. A-IV, B-III, C-II, D-I
2. A-IV, B-II, C-III, D-I
3. A-I, B-II, C-III, D-IV
4. A-IV, B-III, C-IV, D-I

Options :

485584157617. 1
485584157618. 2
485584157619. 3
485584157620. 4

Question Number : 240 Question Id : 48558439405 Question Type : MCQ Option Shuffling : No Is Question Mandatory : No Calculator : None Response Time : N.A Think Time : N.A Minimum Instruction Time : 0

Correct Marks : 5 Wrong Marks : 1

Question Key Details :

Key	Value
Comprehension	MCQ

सूची I का सूची II से मिलान कीजिए

सूची I		सूची II	
A.	विश्वव्यापी उष्णता	I.	हिम अल्पता
B.	स्थिर विद्युत अवक्षेपित्र	II.	सीसा रहित पेट्रोल
C.	उत्प्रेरक परिवर्तक	III.	उष्मीय शक्ति संचित्र
D.	पराबैंगनी (यू वी) बी विकिरण	IV.	ग्रीन हाउस गैस

निम्नलिखित विकल्पों में से सही उत्तर का चयन कीजिए :

1. A-IV, B-III, C-II, D-I
2. A-IV, B-II, C-III, D-I
3. A-I, B-II, C-III, D-IV
4. A-IV, B-III, C-IV, D-I

Options :

485584157617. 1

485584157618. 2

485584157619. 3

485584157620. 4

Sub-Section Number :

2

Sub-Section Id :

4855842907

Question Shuffling Allowed :

No

Is Section Default? :

null

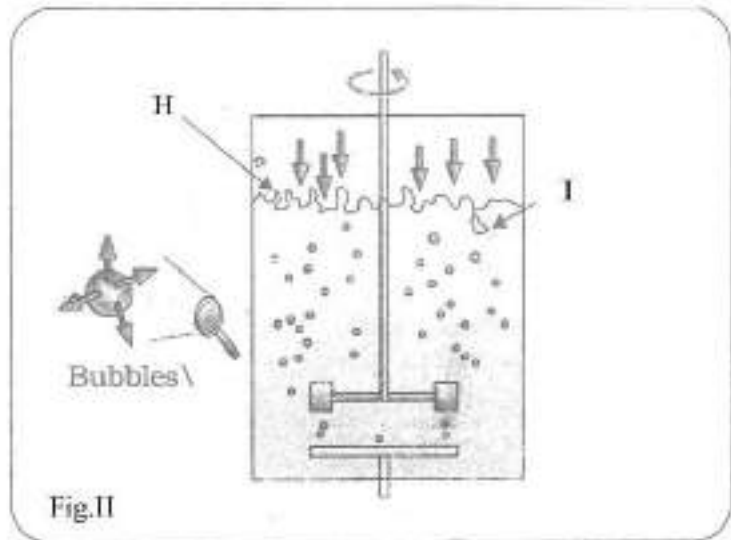
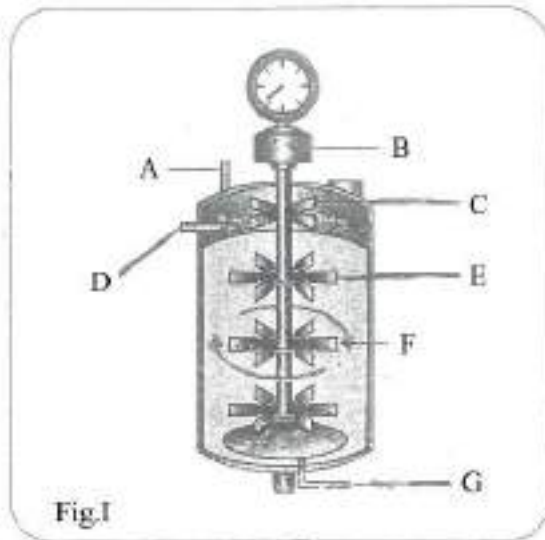
Question Number : 241 Question Id : 48558439406 Question Type : MCQ Option Shuffling : No Is Question Mandatory : No Calculator : None Response Time : N.A Think Time : N.A Minimum Instruction Time : 0

Correct Marks : 5 Wrong Marks : 1

Question Key Details :

Key	Value
Comprehension	Comp1

Observe the figures I and II and answer the following questions.



The parameters for optimal growth conditions of living cells in bioreactor involve:

1. Temperature, Acids and Oxygen
2. Temperature, Vitamins, Salts
3. Temperature, pH, Vitamins, Oxygen, Salts
4. pH, Oxygen, Salts

Options :

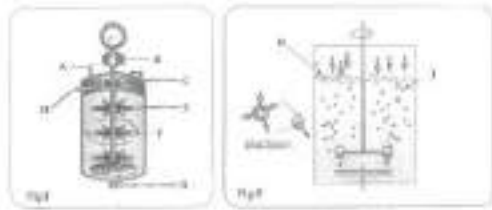
485584157621. 1
485584157622. 2
485584157623. 3
485584157624. 4

Question Number : 241 Question Id : 48558439406 Question Type : MCQ Option Shuffling : No Is Question Mandatory : No Calculator : None Response Time : N.A Think Time : N.A Minimum Instruction Time : 0

Correct Marks : 5 Wrong Marks : 1

Question Key Details :

Key	Value
Comprehension	Compl



चित्र I तथा II का अवलोकन कीजिए तथा निम्नलिखित प्रश्नों के उत्तर दीजिए।

बायोरिप्रेक्टर में सजीव कोशिकाओं की वृद्धि के लिए अनुकूलतम परिस्थियों के मापदंड में सम्मिलित है:

1. तापमान, अम्ल तथा ऑक्सीजन
2. तापमान, विटामिन, लवण
3. तापमान, पी एच, विटामिन्स, ऑक्सीजन, लवण
4. पी एच, ऑक्सीजन, लवण

Options :

485584157621. 1
485584157622. 2
485584157623. 3
485584157624. 4

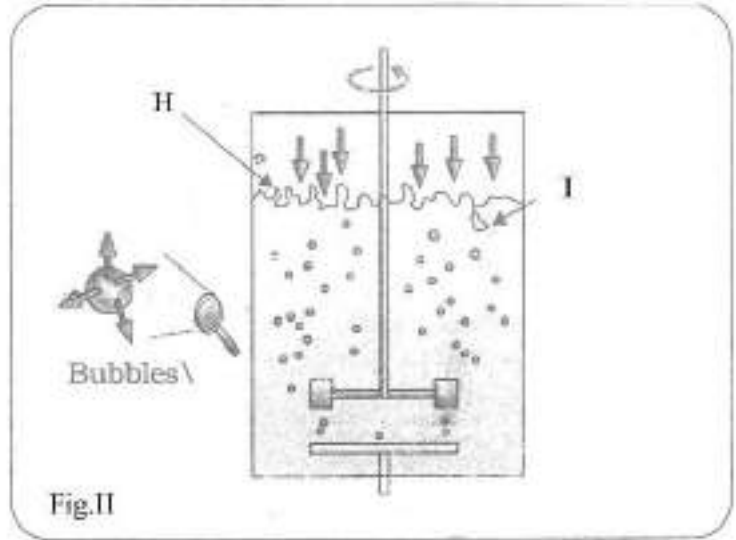
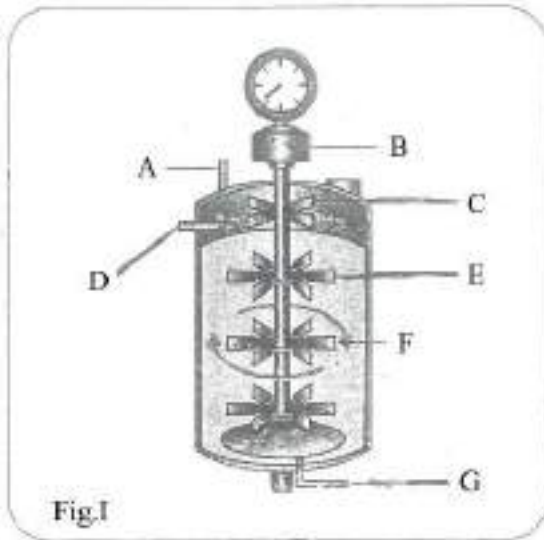
Question Number : 242 Question Id : 48558439407 Question Type : MCQ Option Shuffling : No Is Question Mandatory : No Calculator : None Response Time : N.A Think Time : N.A Minimum Instruction Time : 0

Correct Marks : 5 Wrong Marks : 1

Question Key Details :

Key	Value
Comprehension	Compl

Observe the figures I and II and answer the following questions.



Match List I with List II

LIST I	LIST II
A. Foam Breaker	I. D
B. Sterile Air	II. C
C. Steam for sterilisation	III. E
D. Flat bladed impeller	IV. G

Choose the correct answer from the options given below:

1. A-I, B-II, C-IV, D-III
2. A-II, B-III, C-I, D-IV
3. A-III, B-I, C-IV, D-II
4. A-II, B-IV, C-I, D-III

Options :

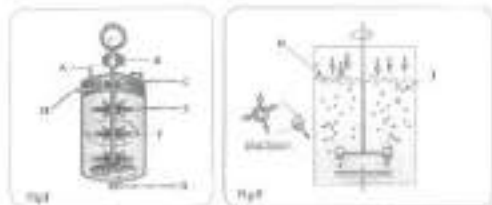
485584157625. 1
 485584157626. 2
 485584157627. 3
 485584157628. 4

Question Number : 242 Question Id : 48558439407 Question Type : MCQ Option Shuffling : No Is Question Mandatory : No Calculator : None Response Time : N.A Think Time : N.A Minimum Instruction Time : 0

Correct Marks : 5 Wrong Marks : 1

Question Key Details :

Key	Value
Comprehension	Compl



चित्र I तथा II का अवलोकन कीजिए तथा निम्नलिखित प्रश्नों के उत्तर दीजिए।

सूची I का सूची II से मिलान कीजिए

सूची I		सूची II	
A.	झाग तोड़ने वाला	I.	D
B.	जीवाणु रहित हवा	II.	C
C.	निर्जीवीकरण हेतु वाष्प	III.	E
D.	चपटे फलक वाला प्रेरक	IV.	G

निम्नलिखित विकल्पों में से सही उत्तर का चयन कीजिए :

1. A-I, B-II, C-IV, D-III
2. A-II, B-III, C-I, D-IV
3. A-III, B-I, C-IV, D-II
4. A-II, B-IV, C-I, D-III

Options :

485584157625. 1
 485584157626. 2
 485584157627. 3
 485584157628. 4

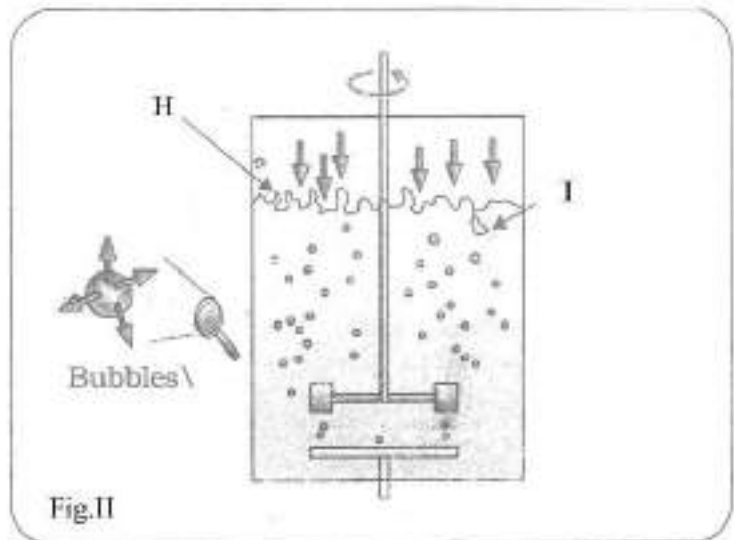
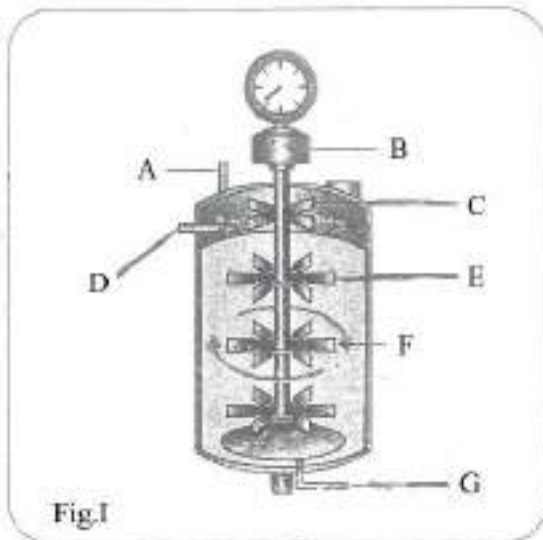
Question Number : 243 Question Id : 48558439408 Question Type : MCQ Option Shuffling : No Is Question Mandatory : No Calculator : None Response Time : N.A Think Time : N.A Minimum Instruction Time : 0

Correct Marks : 5 Wrong Marks : 1

Question Key Details :

Key	Value
Comprehension	Compl

Observe the figures I and II and answer the following questions.



What is the use of sampling ports?

1. To withdraw large volumes of culture periodically
2. To add large volumes of raw culture periodically
3. To add large volume of raw culture in the beginning
4. To withdraw small volumes of the culture periodically

Options :

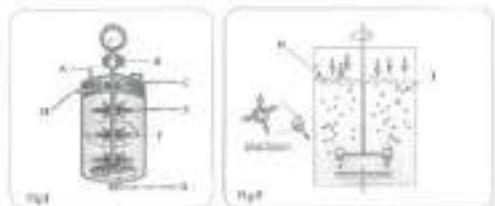
485584157629. 1
485584157630. 2
485584157631. 3
485584157632. 4

Question Number : 243 Question Id : 48558439408 Question Type : MCQ Option Shuffling : No Is Question Mandatory : No Calculator : None
Response Time : N.A Think Time : N.A Minimum Instruction Time : 0

Correct Marks : 5 Wrong Marks : 1

Question Key Details :

Key	Value
Comprehension	Comp1



चित्र I तथा II का अवलोकन कीजिए तथा निम्नलिखित प्रश्नों के उत्तर दीजिए।

प्रतिचयन प्रहार का क्या उपयोग है?

1. समय-समय पर संवर्धन की अधिक मात्रा को निकालना।
2. समय-समय पर कच्चे संवर्धन की अधिक मात्रा को बढ़ाना।
3. प्रारम्भ में कच्चे संवर्धन की अधिक मात्रा को बढ़ाना।
4. समय-समय पर संवर्धन की थोड़ी मात्रा को निकालना।

Options :

485584157629. 1
485584157630. 2
485584157631. 3
485584157632. 4

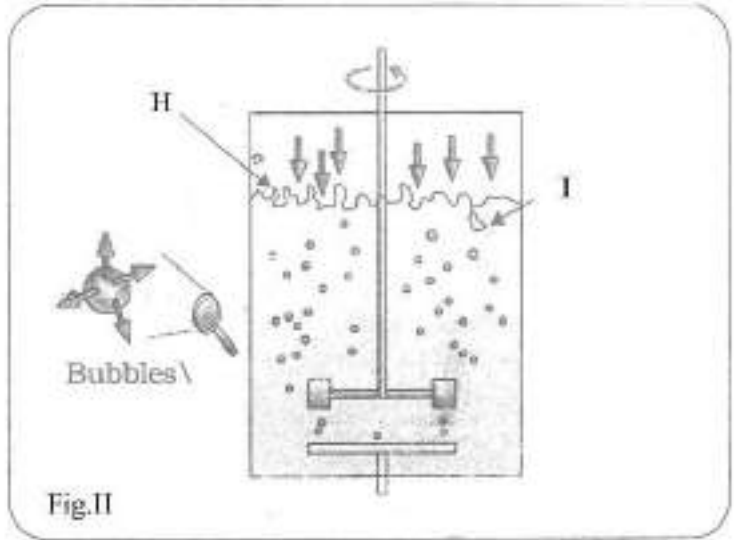
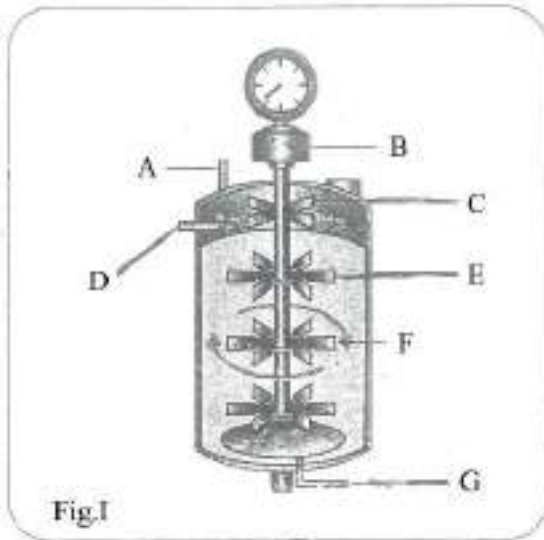
Question Number : 244 Question Id : 48558439409 Question Type : MCQ Option Shuffling : No Is Question Mandatory : No Calculator : None
Response Time : N.A Think Time : N.A Minimum Instruction Time : 0

Correct Marks : 5 Wrong Marks : 1

Question Key Details :

Key	Value
Comprehension	Comp1

Observe the figures I and II and answer the following questions.



What is the role of bubbles as shown in figure II?

1. To increase the oxygen transfer area
2. To decrease the oxygen transfer area
3. To increase the solubility of other gases
4. To increase the solubility of salts

Options :

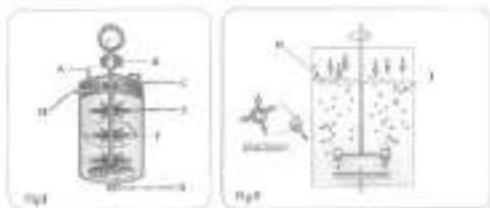
485584157633. 1
 485584157634. 2
 485584157635. 3
 485584157636. 4

Question Number : 244 Question Id : 48558439409 Question Type : MCQ Option Shuffling : No Is Question Mandatory : No Calculator : None Response Time : N.A Think Time : N.A Minimum Instruction Time : 0

Correct Marks : 5 Wrong Marks : 1

Question Key Details :

Key	Value
Comprehension	Compl



चित्र I तथा II का अवलोकन कीजिए तथा निम्नलिखित प्रश्नों के उत्तर दीजिए।

चित्र II में बुलबुलों की भूमिका क्या है?

1. ऑक्सीजन स्थानांतरण क्षेत्र में वृद्धि करना।
2. ऑक्सीजन स्थानांतरण क्षेत्र में कमी करना।
3. अन्य गैसों की विलेयता बढ़ाना
4. लवणों की विलेयता बढ़ाना

Options :

485584157633. 1
 485584157634. 2
 485584157635. 3
 485584157636. 4

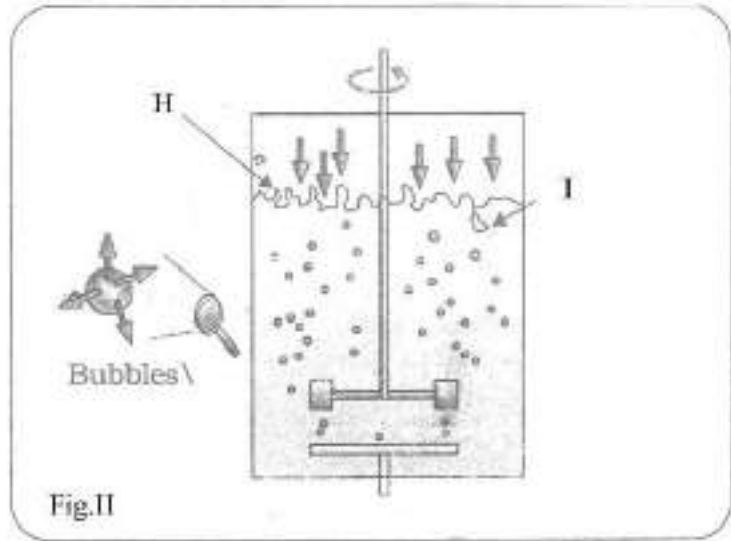
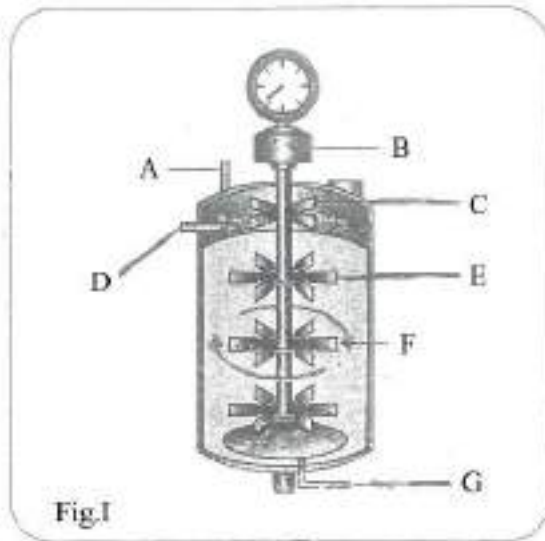
Question Number : 245 Question Id : 48558439410 Question Type : MCQ Option Shuffling : No Is Question Mandatory : No Calculator : None Response Time : N.A Think Time : N.A Minimum Instruction Time : 0

Correct Marks : 5 Wrong Marks : 1

Question Key Details :

Key	Value
Comprehension	Comp1

Observe the figures I and II and answer the following questions.



Identify the statements which are correct with respect to the above figures I and II.

- A. I represent increased surface area for oxygen transfer.
- B. Fig II is of simple stirred-tank bioreactor
- C. A stirred-tank reactor is usually cylindrical with a curved base
- D. The base of the tank is curved to facilities mixing of the reactor contents

Choose the correct answer from the options given below:

1. A and D only
2. B and C only
3. C and D only
4. B and D only

Options :

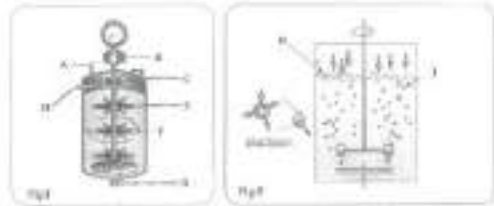
485584157637. 1
485584157638. 2
485584157639. 3
485584157640. 4

Question Number : 245 Question Id : 48558439410 Question Type : MCQ Option Shuffling : No Is Question Mandatory : No Calculator : None
Response Time : N.A Think Time : N.A Minimum Instruction Time : 0

Correct Marks : 5 Wrong Marks : 1

Question Key Details :

Key	Value
Comprehension	Comp1



चित्र I तथा II का अवलोकन कीजिए तथा निम्नलिखित प्रश्नों के उत्तर दीजिए।

ऊपर दिए गए चित्र I तथा II के संदर्भ में, दिए गए कथनों में सही कथनों को पहचानिए:

- A. I ऑक्सीजन स्थानांतरण में वृद्धि दर्शाता है।
- B. चित्र II साधारण विडोलक हीज बायोरिएक्टर को दर्शाता है।
- C. विडोलित हीज रिएक्टर सामान्यता बेलनाकार होता है और जिसका आधार घुमावदार होता है।
- D. हीज का आधार घुमावदार होने से रिएक्टर के अंदर अंतर्वस्तु के मिश्रण में सहायता मिलती है।

नीचे दिए गए विकल्पों में से सही उत्तर का चयन कीजिए

- 1. केवल A और D
- 2. केवल B और C
- 3. केवल C और D
- 4. केवल B और D

Options :

485584157637. 1
485584157638. 2
485584157639. 3
485584157640. 4

Sub-Section Number : 3
Sub-Section Id : 4855842908
Question Shuffling Allowed : No
Is Section Default? : null

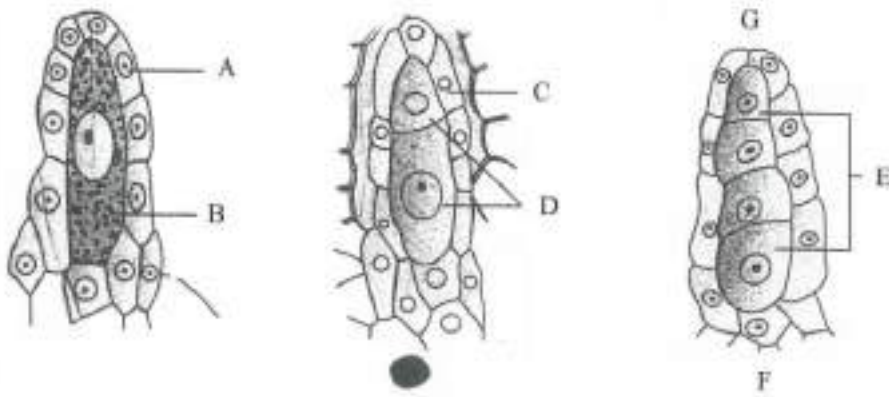
Question Number : 246 Question Id : 48558439411 Question Type : MCQ Option Shuffling : No Is Question Mandatory : No Calculator : None
Response Time : N.A Think Time : N.A Minimum Instruction Time : 0

Correct Marks : 5 Wrong Marks : 1

Question Key Details :

Key	Value
Comprehension	Comp2

Observe the given diagram and answer the questions given below.



The method of embryo sac formation from a single megaspore is termed _____ development.

1. Tetrasporic
2. Monosporic
3. Polysporic
4. Bisporic

Options :

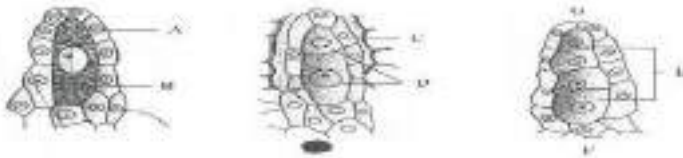
485584157641. 1
 485584157642. 2
 485584157643. 3
 485584157644. 4

Question Number : 246 Question Id : 48558439411 Question Type : MCQ Option Shuffling : No Is Question Mandatory : No Calculator : None Response Time : N.A Think Time : N.A Minimum Instruction Time : 0

Correct Marks : 5 Wrong Marks : 1

Question Key Details :

Key	Value
Comprehension	Comp2



उपरोक्त चित्रों का अवलोकन कीजिए तथा नीचे दिए गए प्रश्नों के उत्तर दीजिए :

एक अकेले गुरु बीजाणु से भ्रूणकोष बनने की विधि को _____ विकास कहा जाता है।

1. चतुष्ट- बीजाणुज
2. एकल- बीजाणुज
3. बहु-बीजाणुज
4. द्वि-बीजाणुज

Options :

485584157641. 1

485584157642. 2
485584157643. 3
485584157644. 4

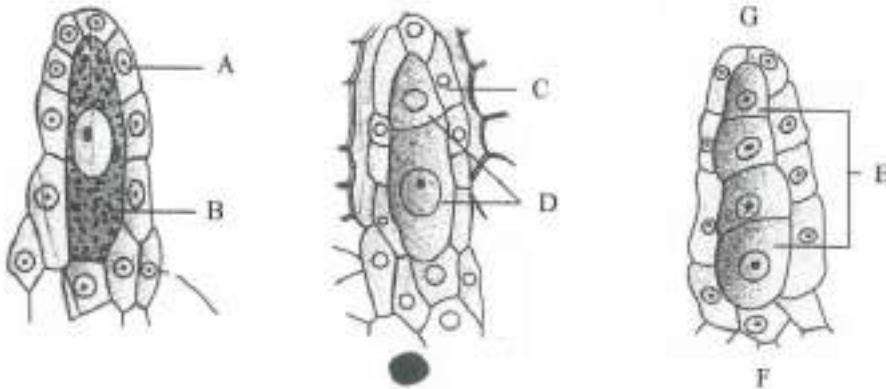
Question Number : 247 Question Id : 48558439412 Question Type : MCQ Option Shuffling : No Is Question Mandatory : No Calculator : None
Response Time : N.A Think Time : N.A Minimum Instruction Time : 0

Correct Marks : 5 Wrong Marks : 1

Question Key Details :

Key	Value
Comprehension	Comp2

Observe the given diagram and answer the questions given below.



Identify the correct statements with respect to female gametophyte.

- A. Three cells at the chalazal end group together to form egg apparatus
- B. Female gametophyte is also known as embryo sac
- C. Six of the eight nuclei in the embryo sac are surrounded by cell walls and organised into cells
- D. Megaspore mother cells form four megaspores by meiotic division

Choose the correct answer from the options given below:

- 1. A, D only
- 2. A and B only
- 3. B, C and D only
- 4. A, B and C only

Options :

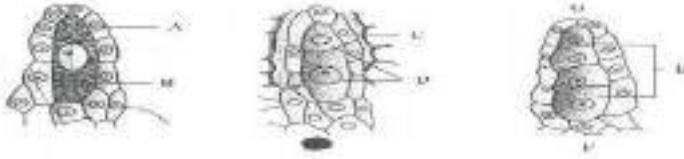
485584157645. 1
485584157646. 2
485584157647. 3
485584157648. 4

Question Number : 247 Question Id : 48558439412 Question Type : MCQ Option Shuffling : No Is Question Mandatory : No Calculator : None
Response Time : N.A Think Time : N.A Minimum Instruction Time : 0

Correct Marks : 5 Wrong Marks : 1

Question Key Details :

Key	Value
Comprehension	Comp2



उपरोक्त चित्रों का अवलोकन कीजिए तथा नीचे दिए गए प्रश्नों के उत्तर दीजिए :

मादा पुष्पकोद्धिद के सन्दर्भ में सही कथनों को पहचानिए:

- A. विभागीय छोर पर तीन कोशिकाओं का समूह मिलकर अंड उपकरण का निर्माण करता है।
- B. मादा पुष्पकोद्धिद को भ्रूणकोष भी कहते हैं।
- C. भ्रूणकोष में आठ न्यूक्लियाई में से छः न्यूक्लियाई कोशिका भित्ति से घिरी होती है और कोशिकाओं में व्यवस्थित होती है।
- D. गुरुबीजाणु मातृकोशिका अर्धसूत्री विभाजन द्वारा चार गुरुबीजाणु बनाती है।

नीचे दिए गए विकल्पों में से सही उत्तर का चयन कीजिए

1. केवल A, और D
2. केवल A और B
3. केवल B, C और D
4. केवल A, B और C

Options :

- 485584157645. 1
- 485584157646. 2
- 485584157647. 3
- 485584157648. 4

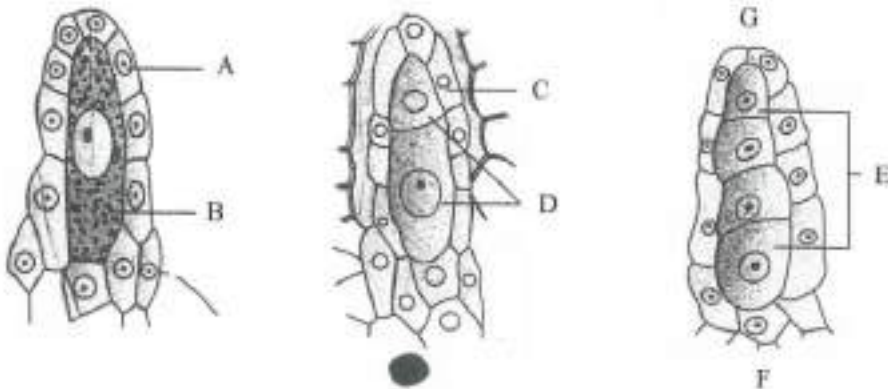
Question Number : 248 Question Id : 48558439413 Question Type : MCQ Option Shuffling : No Is Question Mandatory : No Calculator : None Response Time : N.A Think Time : N.A Minimum Instruction Time : 0

Correct Marks : 5 Wrong Marks : 1

Question Key Details :

Key	Value
Comprehension	Comp2

Observe the given diagram and answer the questions given below:



Match List I with List II

LIST I		LIST II	
A.	Nucellus	I.	G
B.	Megaspore dyad	II.	B
C.	Microspylar end	III.	D
D.	Megaspore mother cell	IV.	C

Choose the correct answer from the options given below:

1. A-I, B-IV, C-II, D-III
2. A-II, B-I, C-IV, D-III
3. A-III, B-IV, C-I, D-II
4. A-IV, B-III, C-I, D-II

Options :

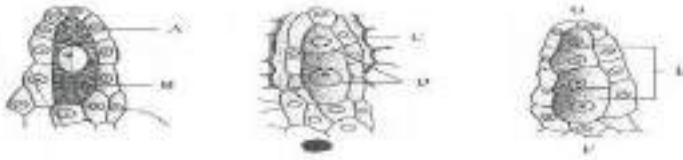
485584157649. 1
485584157650. 2
485584157651. 3
485584157652. 4

Question Number : 248 Question Id : 48558439413 Question Type : MCQ Option Shuffling : No Is Question Mandatory : No Calculator : None Response Time : N.A Think Time : N.A Minimum Instruction Time : 0

Correct Marks : 5 Wrong Marks : 1

Question Key Details :

Key	Value
Comprehension	Comp2



उपरोक्त चित्रों का अवलोकन कीजिए तथा नीचे दिए गए प्रश्नों के उत्तर दीजिए :

सूची I का सूची II से मिलान कीजिए

सूची I		सूची II	
A.	बीजाणुकाय	I.	G
B.	द्वितीयक गुरुबीजाणु	II.	B
C.	बीजाणुद्वारी सिरा	III.	D
D.	गुरुबीजाणु मातृकोशिका	IV.	C

निम्नलिखित विकल्पों में से सही उत्तर का चयन कीजिए :

1. A-I, B-IV, C-II, D-III
2. A-II, B-I, C-IV, D-III
3. A-III, B-IV, C-I, D-II
4. A-IV, B-III, C-I, D-II

Options :

485584157649. 1
485584157650. 2
485584157651. 3
485584157652. 4

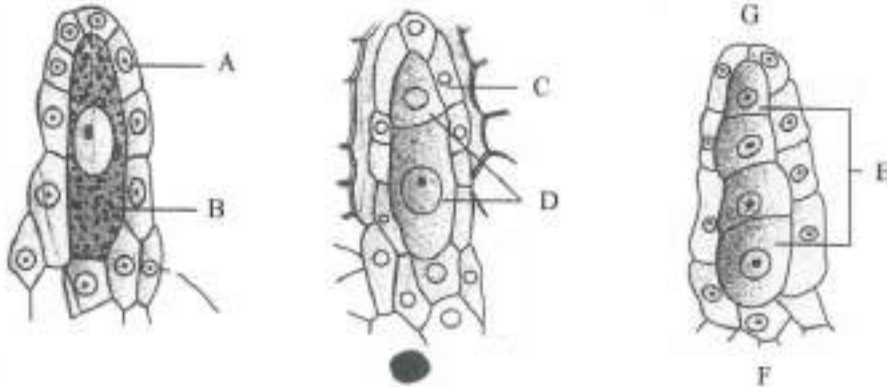
Question Number : 249 Question Id : 48558439414 Question Type : MCQ Option Shuffling : No Is Question Mandatory : No Calculator : None
 Response Time : N.A Think Time : N.A Minimum Instruction Time : 0

Correct Marks : 5 Wrong Marks : 1

Question Key Details :

Key	Value
Comprehension	Comp2

Observe the given diagram and answer the questions given below.



Which part of the ovule differentiates a large cell with dense cytoplasm and a prominent nucleus for megasporogenesis?

1. Micropylar region of the nucellus
2. Chalazal region of the nucellus
3. Centre of the nucellus
4. Inner integument

Options :

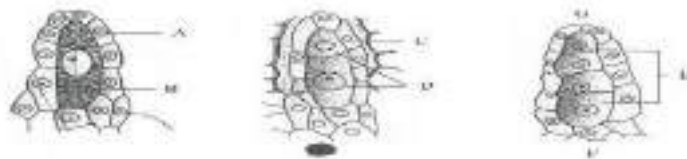
485584157653. 1
 485584157654. 2
 485584157655. 3
 485584157656. 4

Question Number : 249 Question Id : 48558439414 Question Type : MCQ Option Shuffling : No Is Question Mandatory : No Calculator : None
 Response Time : N.A Think Time : N.A Minimum Instruction Time : 0

Correct Marks : 5 Wrong Marks : 1

Question Key Details :

Key	Value
Comprehension	Comp2



उपरोक्त चित्रों का अवलोकन कीजिए तथा नीचे दिए गए प्रश्नों के उत्तर दीजिए :

बीजांड का कौन सा भाग, गुरुबीजाणुजनन के लिए एक बड़ी कोशिका, जो एक सघन जीवद्रव्य से समाहित एवं एक सुस्पष्ट केन्द्रक युक्त होती है, में विलग होता है?

1. बीजांडकाय का बीजांडद्वारी क्षेत्र
2. बीजांडकाय का निभागीय क्षेत्र
3. बीजांडकाय का केन्द्र
4. अंतः आवरण

Options :

485584157653. 1
 485584157654. 2
 485584157655. 3
 485584157656. 4

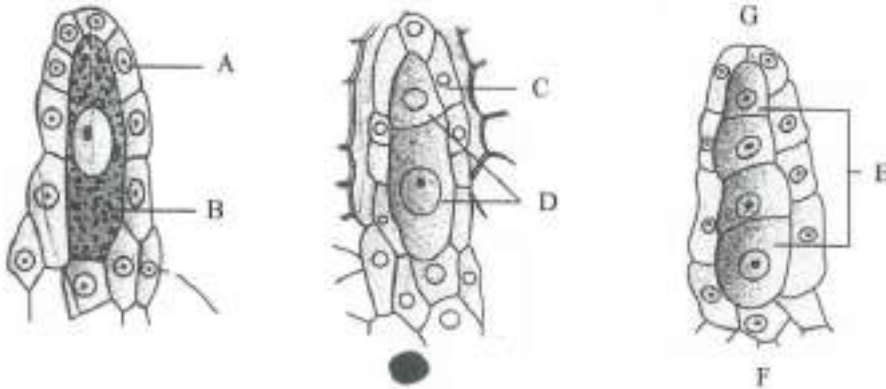
Question Number : 250 Question Id : 48558439415 Question Type : MCQ Option Shuffling : No Is Question Mandatory : No Calculator : None Response Time : N.A Think Time : N.A Minimum Instruction Time : 0

Correct Marks : 5 Wrong Marks : 1

Question Key Details :

Key	Value
Comprehension	Comp2

Observe the given diagram and answer the questions given below:



How many mitotic divisions occur in the nucleus of the functional megaspore to form embryo sac?

1. Two
2. Five
3. Four
4. Three

Options :

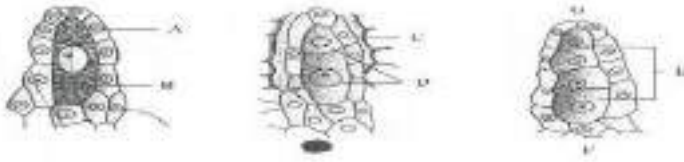
485584157657. 1
 485584157658. 2
 485584157659. 3
 485584157660. 4

Question Number : 250 Question Id : 48558439415 Question Type : MCQ Option Shuffling : No Is Question Mandatory : No Calculator : None Response Time : N.A Think Time : N.A Minimum Instruction Time : 0

Correct Marks : 5 Wrong Marks : 1

Question Key Details :

Key	Value
-----	-------



उपरोक्त चित्रों का अवलोकन कीजिए तथा नीचे दिए गए प्रश्नों के उत्तर दीजिए :

भ्रूणपोष बनाने के लिए, कार्यशील गुरुबीजाणु के नाभिक में कितने समसूत्री विभाजन होते हैं?

1. दो
2. पाँच
3. चार
4. तीन

Options :

485584157657. 1
485584157658. 2
485584157659. 3
485584157660. 4

Business Studies

Group Number :	7
Group Id :	485584888
Group Maximum Duration :	45
Group Minimum Duration :	45
Show Attended Group? :	No
Edit Attended Group? :	No
Break time :	0
Group Marks :	200
Is this Group for Examiner? :	No
Examiner permission :	Cant View
Show Progress Bar? :	No

Business Studies

Section Id :	4855841028
Section Number :	1
Section type :	Online
Mandatory or Optional :	Mandatory
Number of Questions :	50
Number of Questions to be attempted :	40
Section Marks :	200
Enable Mark as Answered Mark for Review and Clear Response :	Yes
Maximum Instruction Time :	0
Sub-Section Number :	1
Sub-Section Id :	4855842909
Question Shuffling Allowed :	Yes
Is Section Default? :	null

Question Number : 251 Question Id : 48558437966 Question Type : MCQ Option Shuffling : No Is Question Mandatory : No Calculator : None
Response Time : N.A Think Time : N.A Minimum Instruction Time : 0

Correct Marks : 5 Wrong Marks : 1

Question Key Details :

Key	Value
Comprehension	MCQ

"An entrepreneur diversifies the economic activities, across the geographic, sectoral and technological scope". Identify the function of entrepreneur in relation to economic development given in the above statement.

1. Contribution to GDP
2. Generation of employment
3. Increasing the spectrum and scope of economic activities
4. Generation of business opportunity for others

Options :

- 485584151861. 1
- 485584151862. 2
- 485584151863. 3
- 485584151864. 4

Question Number : 251 Question Id : 48558437966 Question Type : MCQ Option Shuffling : No Is Question Mandatory : No Calculator : None Response Time : N.A Think Time : N.A Minimum Instruction Time : 0

Correct Marks : 5 Wrong Marks : 1

Question Key Details :

Key	Value
Comprehension	MCQ

'कोई उद्यमी आर्थिक गतिविधियों को समस्त भौगोलिक क्षेत्रीय, एवं प्रौद्योगिकी कार्य-क्षेत्र में विभक्त करता है'। उपर्युक्त कथन में दिए गए आर्थिक विकास के संबंध में उद्यमी के कार्य की पहचान कीजिए।

1. जी डी पी (सकल घरेलू उत्पाद) में योगदान
2. रोजगार- सृजन
3. आर्थिक गतिविधियों के स्पेक्ट्रम एवं कार्यक्षेत्र में वृद्धि करना
4. अन्य के लिए व्यापारिक अवसर का सृजन

Options :

- 485584151861. 1
- 485584151862. 2
- 485584151863. 3
- 485584151864. 4

Question Number : 252 Question Id : 48558437967 Question Type : MCQ Option Shuffling : No Is Question Mandatory : No Calculator : None Response Time : N.A Think Time : N.A Minimum Instruction Time : 0

Correct Marks : 5 Wrong Marks : 1

Question Key Details :

Key	Value
Comprehension	MCQ

FSSAI(Food Safety and Standards Authority of India) has made a proposal for hotels and other food outlets to declare the kind of oil fat used in cooking each of the food items on their menus.

Which consumer right is being reinforced by this proposal?

1. Right to safety
2. Right to consumer education
3. Right to choose
4. Right to be informed

Options :

485584151865. 1
485584151866. 2
485584151867. 3
485584151868. 4

Question Number : 252 Question Id : 48558437967 Question Type : MCQ Option Shuffling : No Is Question Mandatory : No Calculator : None Response Time : N.A Think Time : N.A Minimum Instruction Time : 0

Correct Marks : 5 Wrong Marks : 1

Question Key Details :

Key	Value
Comprehension	MCQ

एफ एस एस ए आई (भारतीय खाद्य सुरक्षा एवं मानक प्राधिकरण) ने होटलों एवं अन्य खाद्य केन्द्रों (आउटलेट) को उनके मेन्यू के प्रत्येक खाद्य पदार्थों को बनाने में प्रयुक्त होने वाले तेल वसा के प्रकार के बारे में बताने (घोषणा) का प्रस्ताव किया है :

इस प्रस्ताव द्वारा कौन-से उपभोक्ता संरक्षण अधिकार को पुनर्बल प्राप्त होगा?

1. सुरक्षा का अधिकार
2. उपभोक्ता-शिक्षा का अधिकार
3. चुनने (चयन) का अधिकार
4. सूचित किए जाने का अधिकार

Options :

485584151865. 1
485584151866. 2
485584151867. 3
485584151868. 4

Question Number : 253 Question Id : 48558437968 Question Type : MCQ Option Shuffling : No Is Question Mandatory : No Calculator : None Response Time : N.A Think Time : N.A Minimum Instruction Time : 0

Correct Marks : 5 Wrong Marks : 1

Question Key Details :

Key	Value
Comprehension	MCQ

Delta Ltd. is operating in consumer goods industry. Its product range include noodles, packaged juice, ketchups etc. It has set up its own grievance cell whose toll free number is printed on package of all its products. Which consumer right Delta ltd. is trying to promote ?

1. Right to safety
2. Right to be heard
3. Right to seek redressal
4. Right to choose

Options :

485584151869. 1
 485584151870. 2
 485584151871. 3
 485584151872. 4

Question Number : 253 Question Id : 48558437968 Question Type : MCQ Option Shuffling : No Is Question Mandatory : No Calculator : None Response Time : N.A Think Time : N.A Minimum Instruction Time : 0 Correct Marks : 5 Wrong Marks : 1

Question Key Details :

Key	Value
Comprehension	MCQ

डेल्टा लिमिटेड एक उपभोक्ता वस्तु उद्योग का परिचालन कर रही है। इसके उत्पादों में नूडल, पैकेज्ड जूस, केचअप इत्यादि शामिल हैं। इसने अपना स्वयं का शिकायत प्रकोष्ठ स्थापित किया है जिसका टोल फ्री नंबर इसके सभी उत्पादों के पैकेज पर छपा हुआ है। डेल्टा लिमिटेड द्वारा कौन-से उपभोक्ता अधिकार को प्रोत्साहित करने का प्रयास किया जा रहा है ?

1. सुरक्षा का अधिकार
2. सुने जाने का अधिकार
3. निवारण (क्षतिपूर्ति) पाने का अधिकार
4. चयन का अधिकार

Options :

485584151869. 1
 485584151870. 2
 485584151871. 3
 485584151872. 4

Question Number : 254 Question Id : 48558437969 Question Type : MCQ Option Shuffling : No Is Question Mandatory : No Calculator : None Response Time : N.A Think Time : N.A Minimum Instruction Time : 0 Correct Marks : 5 Wrong Marks : 1

Question Key Details :

Key	Value
Comprehension	MCQ

The Consumer Protection Act provides a number of reliefs to consumers including replacement of the product, removal of defect, compensation etc. Identify the consumer right highlighted above.

1. Right to choose
2. Right to seek redressal
3. Right to be heard
4. Right to safety

Options :

485584151873. 1
 485584151874. 2
 485584151875. 3
 485584151876. 4

Question Number : 254 Question Id : 48558437969 Question Type : MCQ Option Shuffling : No Is Question Mandatory : No Calculator : None Response Time : N.A Think Time : N.A Minimum Instruction Time : 0

Correct Marks : 5 Wrong Marks : 1

Question Key Details :

Key	Value
Comprehension	MCQ

उपभोक्ता संरक्षण अधिनियम उपभोक्ताओं को वस्तु की अदला-बदली, खराबी को दूर करना, क्षतिपूर्ति इत्यादि समेत अनेक राहत प्रदान करता है। ऊपर रेखांकित किए गए उपभोक्ता अधिकार की पहचान कीजिए।

1. चयन का अधिकार
2. निवारण (क्षतिपूर्ति) का अधिकार
3. सुने जाने का अधिकार
4. सुरक्षा का अधिकार

Options :

485584151873. 1
 485584151874. 2
 485584151875. 3
 485584151876. 4

Question Number : 255 Question Id : 48558437970 Question Type : MCQ Option Shuffling : No Is Question Mandatory : No Calculator : None Response Time : N.A Think Time : N.A Minimum Instruction Time : 0

Correct Marks : 5 Wrong Marks : 1

Question Key Details :

Key	Value
Comprehension	MCQ

"It appears in the form of a symbol, design, distinct colour scheme or lettering". Identify the term related to branding.

1. Brand
2. Brand name
3. Brand mark
4. Trade mark

Options :

485584151877. 1
 485584151878. 2
 485584151879. 3
 485584151880. 4

Question Number : 255 Question Id : 48558437970 Question Type : MCQ Option Shuffling : No Is Question Mandatory : No Calculator : None Response Time : N.A Think Time : N.A Minimum Instruction Time : 0

Correct Marks : 5 Wrong Marks : 1

Question Key Details :

Key	Value
Comprehension	MCQ

"यह प्रतीक, अभिकल्प, विशिष्ट रंग योजना अथवा अक्षरांकन के रूप में प्रकट होता है"। ब्रांडिंग से संबंधित शब्द (पद) को पहचानिए।

1. ब्रांड
2. ब्रांड नेम (नाम)
3. ब्रांड मार्क (चिन्ह)
4. व्यापारिक चिन्ह

Options :

- 485584151877. 1
- 485584151878. 2
- 485584151879. 3
- 485584151880. 4

Question Number : 256 Question Id : 48558437971 Question Type : MCQ Option Shuffling : No Is Question Mandatory : No Calculator : None Response Time : N.A Think Time : N.A Minimum Instruction Time : 0

Correct Marks : 5 Wrong Marks : 1

Question Key Details :

Key	Value
Comprehension	MCQ

Marketing mix includes various elements; often referred to as four 'Ps' of marketing. One of these P's includes activities that make firm's products available to the target customers at right place, at right time, to right people without change. Name the element.

1. Product
2. Place
3. Price
4. Promotion

Options :

- 485584151881. 1
- 485584151882. 2
- 485584151883. 3
- 485584151884. 4

Question Number : 256 Question Id : 48558437971 Question Type : MCQ Option Shuffling : No Is Question Mandatory : No Calculator : None Response Time : N.A Think Time : N.A Minimum Instruction Time : 0

Correct Marks : 5 Wrong Marks : 1

Question Key Details :

Key	Value
Comprehension	MCQ

वे विपणन मिश्रण जिसमें विविध तत्व सम्मिलित होते हैं, वे प्रायः विपणन के चार 'P's' के रूप में उल्लिखित किए जाते हैं। इनमें से एक P में वे गतिविधियाँ शामिल होती हैं जिसके द्वारा फर्म के उत्पाद लक्षित ग्राहकों को बिना परिवर्तन के उचित स्थान पर, उचित समय पर, सही लोगों के लिए उपलब्ध होते हैं। उस तत्व का नाम है।

1. उत्पाद
2. स्थान
3. कीमत
4. प्रचार

Options :

- 485584151881. 1
- 485584151882. 2
- 485584151883. 3
- 485584151884. 4

Question Number : 257 Question Id : 48558437972 Question Type : MCQ Option Shuffling : No Is Question Mandatory : No Calculator : None Response Time : N.A Think Time : N.A Minimum Instruction Time : 0

Correct Marks : 5 Wrong Marks : 1

Question Key Details :

Key	Value
Comprehension	MCQ

Which function of marketing is particularly necessary for products that are not produced according to predetermined specifications?

- 1. Branding
- 2. Grading
- 3. Standardisation
- 4. Promotion

Options :

- 485584151885. 1
- 485584151886. 2
- 485584151887. 3
- 485584151888. 4

Question Number : 257 Question Id : 48558437972 Question Type : MCQ Option Shuffling : No Is Question Mandatory : No Calculator : None Response Time : N.A Think Time : N.A Minimum Instruction Time : 0

Correct Marks : 5 Wrong Marks : 1

Question Key Details :

Key	Value
Comprehension	MCQ

विपणन संबंधी कौन-सा कार्य उन उत्पादों के लिए विशिष्ट रूप से आवश्यक है जो पूर्व निर्धारित विशेषताओं के अनुसार नहीं उत्पादित की जाती हैं ?

- 1. ब्रांडिंग
- 2. श्रेणीकरण (ग्रेडिंग)
- 3. मानकीकरण
- 4. प्रचार

Options :

- 485584151885. 1
- 485584151886. 2
- 485584151887. 3
- 485584151888. 4

Question Number : 258 Question Id : 48558437973 Question Type : MCQ Option Shuffling : No Is Question Mandatory : No Calculator : None Response Time : N.A Think Time : N.A Minimum Instruction Time : 0

Correct Marks : 5 Wrong Marks : 1

Question Key Details :

Key	Value
Comprehension	MCQ

India's largest domestic investor Life Insurance Corporation of India has once again come to government's rescue by subscribing 70% of Hindustan Aeronautics ₹4,200 crore Initial Public Offering (IPO). Which market is being reflected in the above case ?

1. Secondary Market
2. Money Market
3. Primary Market
4. Depository Market

Options :

- 485584151889. 1
- 485584151890. 2
- 485584151891. 3
- 485584151892. 4

Question Number : 258 Question Id : 48558437973 Question Type : MCQ Option Shuffling : No Is Question Mandatory : No Calculator : None Response Time : N.A Think Time : N.A Minimum Instruction Time : 0

Correct Marks : 5 Wrong Marks : 1

Question Key Details :

Key	Value
Comprehension	MCQ

भारत का सबसे बड़ा घरेलू निवेशक भारतीय जीवन बीमा निगम ने एक बार पुनः सरकार के 4200 करोड़ रूपए के इनीशियल पब्लिक ऑफरिंग (आईपीओ) द्वारा हिंदुस्तान एअरोनॉटिक्स के 70% अंशदान द्वारा बचाव किया गया है। उपर्युक्त विषय में किस प्रकार की बाजार को प्रस्तुत किया गया है?

1. द्वितीयक बाजार
2. मुद्रा बाजार
3. प्राथमिक बाजार
4. निक्षेप (डिपॉजिटरी) बाजार

Options :

- 485584151889. 1
- 485584151890. 2
- 485584151891. 3
- 485584151892. 4

Question Number : 259 Question Id : 48558437974 Question Type : MCQ Option Shuffling : No Is Question Mandatory : No Calculator : None Response Time : N.A Think Time : N.A Minimum Instruction Time : 0

Correct Marks : 5 Wrong Marks : 1

Question Key Details :

Key	Value
Comprehension	MCQ

Money Market is a market for short term funds which deals in monetary assets whose period of maturity is upto one year. It's instruments are

- A. Call Money
- B. Shares
- C. Debentures
- D. Treasury Bills
- E. Certificate of Deposit

Choose the correct answer from the options given below:

1. A,D and E only
2. A,B and C only
3. B,C and D only
4. B,C and E only

Options :

- 485584151893. 1
- 485584151894. 2
- 485584151895. 3
- 485584151896. 4

Question Number : 259 Question Id : 48558437974 Question Type : MCQ Option Shuffling : No Is Question Mandatory : No Calculator : None Response Time : N.A Think Time : N.A Minimum Instruction Time : 0

Correct Marks : 5 Wrong Marks : 1

Question Key Details :

Key	Value
Comprehension	MCQ

मुद्रा बाजार अल्पकालिक निधियों से संबंधित वह बाजार है जो ऐसी मौद्रिक परिसंपत्तियों से संबंधित होती है जिनकी परिपक्वता अवधि एक वर्ष तक होती है। इसके साधन हैं :

- A. शीघ्रवधि द्रव्य (CALL MONEY)
- B. अंश
- C. ऋणपत्र
- D. ट्रेजरी बिल
- E. जमा प्रमाण पत्र

नीचे दिए गए विकल्पों में से सही विकल्प का चुनाव कीजिए :

1. केवल A,D और E
2. केवल A,B और C
3. केवल B,C और D only
4. केवल B,C और E

Options :

- 485584151893. 1
- 485584151894. 2
- 485584151895. 3
- 485584151896. 4

Question Number : 260 Question Id : 48558437975 Question Type : MCQ Option Shuffling : No Is Question Mandatory : No Calculator : None Response Time : N.A Think Time : N.A Minimum Instruction Time : 0

Correct Marks : 5 Wrong Marks : 1

Question Key Details :

Key	Value
Comprehension	MCQ

Which function is performed by Financial Markets by linking the savers and investors and by mobilizing funds available for investment into the most productive investment opportunity ?

1. Allocative function
2. Intermediate function
3. Financial function
4. Productive function

Options :

485584151897. 1
485584151898. 2
485584151899. 3
485584151900. 4

Question Number : 260 Question Id : 48558437975 Question Type : MCQ Option Shuffling : No Is Question Mandatory : No Calculator : None Response Time : N.A Think Time : N.A Minimum Instruction Time : 0

Correct Marks : 5 Wrong Marks : 1

Question Key Details :

Key	Value
Comprehension	MCQ

वित्तीय बाजारों द्वारा बचतकर्ताओं और निवेशकों को संबन्ध करके एवं सर्वाधिक मूल्य प्रदायक निवेश अवसर में निवेश हेतु उपलब्ध निधियों को संगठित (एकत्र) करके कौन-सा कार्य निष्पादित किया जाता है ?

1. आबंटनकारी कार्य
2. मध्यवर्ती कार्य
3. वित्तीय कार्य
4. उत्पादनकारी कार्य

Options :

485584151897. 1
485584151898. 2
485584151899. 3
485584151900. 4

Question Number : 261 Question Id : 48558437976 Question Type : MCQ Option Shuffling : No Is Question Mandatory : No Calculator : None Response Time : N.A Think Time : N.A Minimum Instruction Time : 0

Correct Marks : 5 Wrong Marks : 1

Question Key Details :

Key	Value
Comprehension	MCQ

Ajay wishes to invest ₹1,50,000 in treasury bills. What are the maximum number of treasury bills he can buy with his fund?

1. 6
2. 7
3. 4
4. 3

Options :

485584151901. 1
 485584151902. 2
 485584151903. 3
 485584151904. 4

Question Number : 261 Question Id : 48558437976 Question Type : MCQ Option Shuffling : No Is Question Mandatory : No Calculator : None Response Time : N.A Think Time : N.A Minimum Instruction Time : 0

Correct Marks : 5 Wrong Marks : 1

Question Key Details :

Key	Value
Comprehension	MCQ

अजय ट्रेजरी बिलों में 1,50,000 रूपए के निवेश की इच्छा रखता है। कितने ट्रेजरी बिल को वह इस निधि (धन) से खरीद सकता है ?

1. 6
 2. 7
 3. 4
 4. 3

Options :

485584151901. 1
 485584151902. 2
 485584151903. 3
 485584151904. 4

Question Number : 262 Question Id : 48558437977 Question Type : MCQ Option Shuffling : No Is Question Mandatory : No Calculator : None Response Time : N.A Think Time : N.A Minimum Instruction Time : 0

Correct Marks : 5 Wrong Marks : 1

Question Key Details :

Key	Value
Comprehension	MCQ

As a broker guide your client the correct sequence of steps involved in the trading procedure on a stock exchange from the following operations stated below.

- A. Pay out day
 B. Place an order with broker
 C. Open demat account
 D. Pay in day
 E. Execution of order

1. C, E, B, A, D
 2. C, B, E, D, A
 3. C, B, E, A, D
 4. B, C, E, D, A

Options :

485584151905. 1
 485584151906. 2
 485584151907. 3
 485584151908. 4

Question Number : 262 Question Id : 48558437977 Question Type : MCQ Option Shuffling : No Is Question Mandatory : No Calculator : None Response Time : N.A Think Time : N.A Minimum Instruction Time : 0

Correct Marks : 5 Wrong Marks : 1

Question Key Details :

Key	Value
Comprehension	MCQ

ब्रोकर के रूप में आप अपने सेवार्थी को नीचे दिए गए निम्नलिखित प्रचालनों में शामिल होने वाले सोपानों के सही क्रम के बारे में बताइए।

- A. पे आउट ले
- B. ब्रोकर को ऑर्डर देना
- C. डीमैट खाता खोलना
- D. पे इन ले
- E. ऑर्डर का क्रियान्वयन

नीचे दिए गए विकल्पों में से सही विकल्प का चुनाव करें :

1. C, E, B, A, D
2. C, B, E, D, A
3. C, B, E, A, D
4. B, C, E, D, A

Options :

485584151905. 1
485584151906. 2
485584151907. 3
485584151908. 4

Question Number : 263 Question Id : 48558437978 Question Type : MCQ Option Shuffling : No Is Question Mandatory : No Calculator : None Response Time : N.A Think Time : N.A Minimum Instruction Time : 0

Correct Marks : 5 Wrong Marks : 1

Question Key Details :

Key	Value
Comprehension	MCQ

Identify the trading platform for equities with futures and options segment for various derivative instruments set up as a nationwide fully automated screen based trading system in 1994

- A. NSE
- B. BSE
- C. OTCEI
- D. SEBI

Choose the correct answer from the options given below

1. A only
2. A and B only
3. B and C only
4. B, C and D only

Options :

485584151909. 1
485584151910. 2
485584151911. 3
485584151912. 4

Question Number : 263 Question Id : 48558437978 Question Type : MCQ Option Shuffling : No Is Question Mandatory : No Calculator : None Response Time : N.A Think Time : N.A Minimum Instruction Time : 0

Correct Marks : 5 Wrong Marks : 1

Question Key Details :

Key	Value
Comprehension	MCQ

राष्ट्रीय स्तर पर 1994 में पूर्ण रूप से स्वचालित स्क्रीन आधारित व्यापार प्रणाली के रूप में स्थापित विविध निर्द्वनात्मक प्रपत्र (डेरिवेटिव इंस्ट्रुमेंट) हेतु फ्युचर्स (वायदा) एवं विकल्पों वाली समताओं हेतु व्यापारिक मंच की पहचान कीजिए।

- A. एन एस ई
- B. बी एस ई
- C. ओ टी सी ई आई
- D. सेबी

नीचे दिए गए विकल्पों में से सही विकल्प का चुनाव करें :

- 1. केवल A
- 2. केवल A और B
- 3. केवल B और C
- 4. केवल B, C और D

Options :

- 485584151909. 1
- 485584151910. 2
- 485584151911. 3
- 485584151912. 4

Question Number : 264 Question Id : 48558437979 Question Type : MCQ Option Shuffling : No Is Question Mandatory : No Calculator : None Response Time : N.A Think Time : N.A Minimum Instruction Time : 0

Correct Marks : 5 Wrong Marks : 1

Question Key Details :

Key	Value
Comprehension	MCQ

Identify the statements that can be an objective of financial planning.

- A. To ensure availability of funds whenever required.
- B. See all the items of profit and loss
- C. To see the size and composition of fixed assets of the business
- D. Break up of long term financing into debt and equity
- E. To see the firm does not raise resources unnecessarily

Choose the correct answer from the options given below:

- 1. A and B only
- 2. C and E only
- 3. B and D only
- 4. A and E only

Options :

- 485584151913. 1
- 485584151914. 2
- 485584151915. 3
- 485584151916. 4

Question Number : 264 Question Id : 48558437979 Question Type : MCQ Option Shuffling : No Is Question Mandatory : No Calculator : None Response Time : N.A Think Time : N.A Minimum Instruction Time : 0

Correct Marks : 5 Wrong Marks : 1

Question Key Details :

Key	Value
Comprehension	MCQ

उस कथन को पहचानिए जो वित्तीय नियोजन का एक उद्देश्य हो सकता है ?

- A. आवश्यक पड़ने पर निधि (धन) की उपलब्धता को सुनिश्चित करना।
- B. लाभ एवं हानि से संबंधित सभी मदों को देखना (जांचना)।
- C. व्यापार की स्थाई परिसंपत्तियों के आकार और संघटन की जांचना।
- D. दीर्घावधि वाले वित्तीयन को कर्ज एवं इक्विटी में विभाजित करना।
- E. फर्म को अनावश्यक रूप से संसाधनों को नहीं जुटाने की जाँच करना।

नीचे दिए गए विकल्पों में से सही विकल्प का चुनाव करें :

- 1. केवल A और B
- 2. केवल C और E
- 3. केवल B और D
- 4. केवल A और E

Options :

- 485584151913. 1
- 485584151914. 2
- 485584151915. 3
- 485584151916. 4

Question Number : 265 Question Id : 48558437980 Question Type : MCQ Option Shuffling : No Is Question Mandatory : No Calculator : None Response Time : N.A Think Time : N.A Minimum Instruction Time : 0

Correct Marks : 5 Wrong Marks : 1

Question Key Details :

Key	Value
Comprehension	MCQ

Sharma ltd. is a market leader in the business of export of garments. Now he wants to venture into leather goods which require different productive resources. For this, he prepared a blue print to estimate the amount of funds required and the timings to ensure that adequate funds are available at the right time.

Identify the financial concept discussed in the above para.

- 1. Financial Management
- 2. Financial Planning
- 3. Management of Fixed Capital
- 4. Management of Working Capital

Options :

- 485584151917. 1
- 485584151918. 2
- 485584151919. 3
- 485584151920. 4

Question Number : 265 Question Id : 48558437980 Question Type : MCQ Option Shuffling : No Is Question Mandatory : No Calculator : None Response Time : N.A Think Time : N.A Minimum Instruction Time : 0

Correct Marks : 5 Wrong Marks : 1

Question Key Details :

Key	Value
Comprehension	MCQ

शर्मा लिमिटेड वस्त्रों के निर्यात संबंधी व्यवसाय में बाजार का एक नेता (अग्रुआ) है। अब वह चमड़े से बनी वस्तुओं के स्रोत में व्यवसाय करना चाहता है जिसमें विभिन्न उत्पादनकारी संसाधनों की आवश्यकता है। इसके लिए उसने आवश्यक निधियों की राशि के आंकलन हेतु और समय जिससे सही समय पर पर्याप्त मात्रा में धन की उपलब्धता सुनिश्चित करने के लिए एक ब्लू प्रिंट तैयार किया।

उपर्युक्त गद्यांश में वर्णित वित्तीय अवधारणा की पहचान कीजिए।

1. वित्तीय प्रबंधन
2. वित्तीय नियोजन
3. स्थाई पूँजी का प्रबंधन
4. कार्यशील पूँजी का प्रबंधन

Options :

485584151917. 1
485584151918. 2
485584151919. 3
485584151920. 4

Question Number : 266 Question Id : 48558437981 Question Type : MCQ Option Shuffling : No Is Question Mandatory : No Calculator : None Response Time : N.A Think Time : N.A Minimum Instruction Time : 0

Correct Marks : 5 Wrong Marks : 1

Question Key Details :

Key	Value
Comprehension	MCQ

Sultan Cables Ltd. earned a net profit of ₹ 50 crores. Anand, the finance manager of Sultan Cables Ltd. wants to decide how to apportion these profits. Which financial decision will help him in deciding it ?

1. Financing Decision
2. Dividend Decision
3. Interest Decision
4. Investment Decision

Options :

485584151921. 1
485584151922. 2
485584151923. 3
485584151924. 4

Question Number : 266 Question Id : 48558437981 Question Type : MCQ Option Shuffling : No Is Question Mandatory : No Calculator : None Response Time : N.A Think Time : N.A Minimum Instruction Time : 0

Correct Marks : 5 Wrong Marks : 1

Question Key Details :

Key	Value
Comprehension	MCQ

सुल्तान केबल्स लिमिटेड ने 50 करोड़ रूपए का निवल लाभ अर्जित किया। सुल्तान केबल्स लिमिटेड के वित्त प्रबंधक आनन्द इन लाभों को बांटना चाहते हैं। कौन-सा वित्तीय निर्णय उनकी इसे तय करने में सहायता करेगा ?

1. वित्तीयन निर्णय
2. लाभांश निर्णय
3. ब्याज निर्णय
4. निवेश निर्णय

Options :

485584151921. 1
485584151922. 2
485584151923. 3
485584151924. 4

Question Number : 267 Question Id : 48558437982 Question Type : MCQ Option Shuffling : No Is Question Mandatory : No Calculator : None Response Time : N.A Think Time : N.A Minimum Instruction Time : 0

Correct Marks : 5 Wrong Marks : 1

Question Key Details :

Key	Value
Comprehension	MCQ

* Abandoning a project after heavy investment is made, is quite costly in terms of waste of funds. Therefore these decisions should be taken carefully". - This statement highlights which point of importance of fixed capital/ capital budgeting decision. - identify

1. Irreversible decisions
2. Risk involved
3. Large amount of funds
4. Long term growth

Options :

485584151925. 1
485584151926. 2
485584151927. 3
485584151928. 4

Question Number : 267 Question Id : 48558437982 Question Type : MCQ Option Shuffling : No Is Question Mandatory : No Calculator : None Response Time : N.A Think Time : N.A Minimum Instruction Time : 0

Correct Marks : 5 Wrong Marks : 1

Question Key Details :

Key	Value
Comprehension	MCQ

"भारी मात्रा में निवेश के पश्चात किसी परियोजना का त्याग करना निधि (धन) को बर्बाद करने के संबंध में अत्यंत महंगा है" - यह कथन स्थाई पूँजी/ पूँजी बजटन निर्णय के महत्व संबंधी किस बिंदु को रेखांकित करता है, पहचान कीजिए

1. अनुक्रमणीय निर्णय
2. जोखिम शामिल होता है
3. अत्यधिक मात्रा में धन (निधि)
4. दीर्घकालिक संवृद्धि

Options :

485584151925. 1
485584151926. 2
485584151927. 3
485584151928. 4

Question Number : 268 Question Id : 48558437983 Question Type : MCQ Option Shuffling : No Is Question Mandatory : No Calculator : None
Response Time : N.A Think Time : N.A Minimum Instruction Time : 0

Correct Marks : 5 Wrong Marks : 1

Question Key Details :

Key	Value
Comprehension	MCQ

Calculate - EPS, assuming face value of a equity Share of ₹10;

Total funds- ₹50 lakh

Interest rate - 10% p.a

Tax rate - 50%

EBIT - ₹5 lakh

Debt - ₹20 lakh

1. 1.05

2. 1.40

3. 0.50

4. 0.93

Options :

485584151929. 1
485584151930. 2
485584151931. 3
485584151932. 4

Question Number : 268 Question Id : 48558437983 Question Type : MCQ Option Shuffling : No Is Question Mandatory : No Calculator : None
Response Time : N.A Think Time : N.A Minimum Instruction Time : 0

Correct Marks : 5 Wrong Marks : 1

Question Key Details :

Key	Value
Comprehension	MCQ

10 रूपए के इक्विटी शेयर (अंश) के अंकित मूल्य को मानकर EPS (ईपीएस) की गणना कीजिए :

कुल निधि - ₹50 लाख

ब्याज दर - 10% प्रति वर्ष

कर दर - 50%

ईबीआईटी - ₹5 लाख

कर्ज - ₹20 लाख

1. 1.05

2. 1.40

3. 0.50

4. 0.93

Options :

- 485584151929. 1
- 485584151930. 2
- 485584151931. 3
- 485584151932. 4

Question Number : 269 Question Id : 48558437984 Question Type : MCQ Option Shuffling : No Is Question Mandatory : No Calculator : None Response Time : N.A Think Time : N.A Minimum Instruction Time : 0

Correct Marks : 5 Wrong Marks : 1

Question Key Details :

Key	Value
Comprehension	MCQ

Motivating is highly complex process. Many researchers have studied about motivation for several dimensions and developed some theories. One of them was John Abraham Maslow. He believed that human needs can be arranged in a sequential order as below:

- A. Esteem needs
- B. Self actualisation needs
- C. Security needs
- D. Belonging needs
- E. Basic physiological needs

Choose the correct answer from the options given below:

- 1. E, C, D, A, B
- 2. B, A, E, C, D
- 3. A, B, C, D, E
- 4. C, D, A, E, B

Options :

- 485584151933. 1
- 485584151934. 2
- 485584151935. 3
- 485584151936. 4

Question Number : 269 Question Id : 48558437984 Question Type : MCQ Option Shuffling : No Is Question Mandatory : No Calculator : None Response Time : N.A Think Time : N.A Minimum Instruction Time : 0

Correct Marks : 5 Wrong Marks : 1

Question Key Details :

Key	Value
Comprehension	MCQ

अभिप्रेरण अत्यंत जटिल प्रक्रिया है। अनेक विद्वानों ने कतिपय आयामों हेतु अभिप्रेरण के बारे में अध्ययन किया है और कुछ सिद्धांतों को विकसित किया। उनमें से एक अब्राहम मैस्लो थे। वे मानते थे कि मानव आवश्यकताओं को अनुक्रमित क्रम में नीचे के अनुसार व्यवस्थित किया जा सकता है :

- A. प्रतिष्ठा मान-सम्मान आवश्यकताएं (Esteem needs)
- B. आत्म-संतुष्टि संबंधी आवश्यकताएं
- C. सुरक्षा आवश्यकताएं
- D. संबंध आवश्यकताएं
- E. मूलभूत शारीरिक आवश्यकताएं

नीचे दिए गए विकल्पों में से सही विकल्प का चुनाव करें :

- 1. E, C, D, A, B
- 2. B, A, E, C, D
- 3. A, B, C, D, E
- 4. C, D, A, E, B

Options :

- 485584151933. 1
- 485584151934. 2
- 485584151935. 3
- 485584151936. 4

Question Number : 270 Question Id : 48558437985 Question Type : MCQ Option Shuffling : No Is Question Mandatory : No Calculator : None Response Time : N.A Think Time : N.A Minimum Instruction Time : 0

Correct Marks : 5 Wrong Marks : 1

Question Key Details :

Key	Value
Comprehension	MCQ

Sam works in KFC, from time to time he gives valuable suggestions, which has benefitted KFC and the company has given him bonus as an incentive. Which incentive is highlighted in the above case ?

- 1. Job enrichment
- 2. Employee participation
- 3. Employee empowerment
- 4. Financial Incentive

Options :

- 485584151937. 1
- 485584151938. 2
- 485584151939. 3
- 485584151940. 4

Question Number : 270 Question Id : 48558437985 Question Type : MCQ Option Shuffling : No Is Question Mandatory : No Calculator : None Response Time : N.A Think Time : N.A Minimum Instruction Time : 0

Correct Marks : 5 Wrong Marks : 1

Question Key Details :

Key	Value
Comprehension	MCQ

सैम KFC में कार्यरत है, समय-समय पर वह मूल्यवान सुझाव देता है जिससे KFC को लाभ प्राप्त हुआ है और कंपनी ने उसको प्रोत्साहन के रूप में बोनस दिया है। उपर्युक्त विषय में कौन सा प्रोत्साहन को रेखांकित किया गया है ?

1. कार्य संवर्धन
2. कर्मचारी सहभागिता
3. कर्मचारी सशक्तिकरण
4. वित्तीय प्रोत्साहन

Options :

485584151937. 1
485584151938. 2
485584151939. 3
485584151940. 4

Question Number : 271 Question Id : 48558437986 Question Type : MCQ Option Shuffling : No Is Question Mandatory : No Calculator : None Response Time : N.A Think Time : N.A Minimum Instruction Time : 0

Correct Marks : 5 Wrong Marks : 1

Question Key Details :

Key	Value
Comprehension	MCQ

An employee explains about his problem to the boss who is preoccupied with an important file. The boss does not understand the message. Identify the category of psychological barrier in the above statement.

1. Premature evaluation
2. Loss of transmission
3. Distrust
4. Lack of attention

Options :

485584151941. 1
485584151942. 2
485584151943. 3
485584151944. 4

Question Number : 271 Question Id : 48558437986 Question Type : MCQ Option Shuffling : No Is Question Mandatory : No Calculator : None Response Time : N.A Think Time : N.A Minimum Instruction Time : 0

Correct Marks : 5 Wrong Marks : 1

Question Key Details :

Key	Value
Comprehension	MCQ

एक कर्मचारी अपनी समस्या के बारे में बॉस से बात करता है जो एक महत्वपूर्ण फाइल के साथ पहले से तल्लीन है। बॉस इस संदेश (बात) को नहीं समझ पाया। उपरोक्त कथन में व्यक्त मनोवैज्ञानिक बाधा की श्रेणी (कोटि) की पहचान कीजिए।

1. अपरिपक्व मूल्यांकन
2. प्रेषण- क्षति (हानि)
3. अविश्वास
4. ध्यान में कमी

Options :

485584151941. 1

485584151942. 2
485584151943. 3
485584151944. 4

Question Number : 272 Question Id : 48558437987 Question Type : MCQ Option Shuffling : No Is Question Mandatory : No Calculator : None
Response Time : N.A Think Time : N.A Minimum Instruction Time : 0

Correct Marks : 5 Wrong Marks : 1

Question Key Details :

Key	Value
Comprehension	MCQ

The Manager announced that new system of accounting will be introduced in one month. This created resistance among the workers. The workers showed their inability to do the work. The manager is finding it difficult to cope up with the situation. The workers are always seen unwilling to take up any kind of work.

Which element of directing can resolve the problem faced by the Manager. Choose the correct option.

1. Supervision
2. Leadership
3. Motivation
4. Communication

Options :

485584151945. 1
485584151946. 2
485584151947. 3
485584151948. 4

Question Number : 272 Question Id : 48558437987 Question Type : MCQ Option Shuffling : No Is Question Mandatory : No Calculator : None
Response Time : N.A Think Time : N.A Minimum Instruction Time : 0

Correct Marks : 5 Wrong Marks : 1

Question Key Details :

Key	Value
Comprehension	MCQ

प्रबंधक ने घोषणा की है कि लेखांकन की एक नयी पद्धति को एक माह में शुरू किया जाएगा। इसने कर्मचारियों में प्रतिरोध की भावना उत्पन्न कर दी। कर्मचारियों ने कार्य को करने में अक्षमता प्रदर्शित किया। प्रबंधक इस स्थिति का सामना करने में कठिनाई महसूस कर रहा है। कर्मचारी सदैव किसी भी कार्य को करने में अनिच्छा प्रदर्शित करते रहे हैं।

प्रबंधक द्वारा सामना की गयी समस्या का निर्देशन का कौन-सा तत्व समाधान कर सकता है। सही विकल्प को चुनिए।

1. पर्यवेक्षण
2. नेतृत्व
3. अभिप्रेरण
4. संप्रेषण

Options :

485584151945. 1
485584151946. 2
485584151947. 3
485584151948. 4

Question Number : 273 Question Id : 48558437988 Question Type : MCQ Option Shuffling : No Is Question Mandatory : No Calculator : None
Response Time : N.A Think Time : N.A Minimum Instruction Time : 0

Correct Marks : 5 Wrong Marks : 1

Question Key Details :

Key	Value
-----	-------

Match List I with List II

LIST I Purpose		LIST II Process	
A.	Standards are the criteria against which actual performance would be measured	I.	Measurement of Actual performance
B.	Several techniques for measurement laid down	II.	Setting performance Standard
C.	Critical point control and Management by exception are used by managers.	III.	Taking corrective Action
D.	Involves training of employees	IV.	Analysing Deviation

Choose the correct answer from the options given below:

1. A-I, B-II, C-III, D-IV
2. A-II, B-III, C-I, D-IV
3. A-II, B-I, C-IV, D-III
4. A-IV, B-III, C-II, D-I

Options :

485584151949. 1
485584151950. 2
485584151951. 3
485584151952. 4

Question Number : 273 Question Id : 48558437988 Question Type : MCQ Option Shuffling : No Is Question Mandatory : No Calculator : None Response Time : N.A Think Time : N.A Minimum Instruction Time : 0

Correct Marks : 5 Wrong Marks : 1

Question Key Details :

Key	Value
Comprehension	MCQ

सूची I का सूची II से मिलान कीजिए

सूची I उद्देश्य		सूची II प्रक्रिया	
A.	मापदण्ड वे कसौटी होती हैं जिससे वास्तविक प्रदर्शन की माप की जा सकेगी	I.	वास्तविक प्रदर्शन का मापन
B.	मापन हेतु कतिपय प्रविधियों की स्थापना	II.	प्रदर्शन मानकों स्थापित करना
C.	अपवाद द्वारा महत्वपूर्ण बिंदु नियन्त्रण और मापन का प्रयोग प्रबंधकों द्वारा किये जाते हैं	III.	सुधारात्मक कार्यवाही करना
D.	कर्मचारियों का प्रशिक्षण शामिल होता है	IV.	विश्लेषण विचलन

निम्नलिखित विकल्पों में से सही उत्तर का चयन कीजिए :

1. A-I, B-II, C-III, D-IV
2. A-II, B-III, C-I, D-IV
3. A-II, B-I, C-IV, D-III
4. A-IV, B-III, C-II, D-I

Options :

485584151949. 1
485584151950. 2
485584151951. 3
485584151952. 4

Question Number : 274 Question Id : 48558437989 Question Type : MCQ Option Shuffling : No Is Question Mandatory : No Calculator : None Response Time : N.A Think Time : N.A Minimum Instruction Time : 0

Correct Marks : 5 Wrong Marks : 1

Question Key Details :

Key	Value
Comprehension	MCQ

Arrange the following steps of controlling in correct sequence:

- A. Setting Performance Standards
- B. Measuring Actual Performance
- C. Taking Corrective Action
- D. Analysing Deviations
- E. Comparing Actual Performance with Standards

Choose the correct answer from the options given below:

1. A, B, E, C, D
2. B, A, E, D, C
3. B, A, D, E, C
4. A, B, E, D, C

Options :

485584151953. 1
485584151954. 2
485584151955. 3
485584151956. 4

Question Number : 274 Question Id : 48558437989 Question Type : MCQ Option Shuffling : No Is Question Mandatory : No Calculator : None Response Time : N.A Think Time : N.A Minimum Instruction Time : 0

Correct Marks : 5 Wrong Marks : 1

Question Key Details :

Key	Value
Comprehension	MCQ

नियन्त्रण के निम्नलिखित सोपानों को सही अनुक्रम में व्यवस्थित कीजिए।

- A. निष्पादन (प्रदर्शन) मानकों को स्थापित करना
- B. वास्तविक प्रदर्शन का मापन
- C. सुधारात्मक कार्यवाही करना
- D. विचलनों का विश्लेषण करना
- E. वास्तविक प्रदर्शन का मानकों के साथ तुलना करना

नीचे दिए गए विकल्पों में से सही विकल्प का चुनाव करें :

1. A, B, E, C, D
2. B, A, E, D, C
3. B, A, D, E, C
4. A, B, E, D, C

Options :

485584151953. 1
485584151954. 2
485584151955. 3
485584151956. 4

Question Number : 275 Question Id : 48558437990 Question Type : MCQ Option Shuffling : No Is Question Mandatory : No Calculator : None Response Time : N.A Think Time : N.A Minimum Instruction Time : 0

Correct Marks : 5 Wrong Marks : 1

Question Key Details :

Key	Value
Comprehension	MCQ

Match List I with List II

LIST I Methods of Training	LIST II Features
A. Coaching	I. In this, trainee is put under the guidance of master worker
B. Films	II. Superior guides and instructs the trainee as a coach
C. Vestibule	III. Provides information and explicitly demonstrates skills not easily represented by other techniques
D. Apprenticeship programmes	IV. Employees learn their jobs on the equipment but training is conducted away from actual work place

Choose the correct answer from the options given below:

1. A-I, B-II, C-III, D-IV
2. A-IV, B-III, C-II, D-I
3. A-II, B-I, C-III, D-IV
4. A-II, B-III, C-IV, D-I

Options :

485584151957. 1
485584151958. 2
485584151959. 3
485584151960. 4

Question Number : 275 Question Id : 48558437990 Question Type : MCQ Option Shuffling : No Is Question Mandatory : No Calculator : None Response Time : N.A Think Time : N.A Minimum Instruction Time : 0

Correct Marks : 5 Wrong Marks : 1

Question Key Details :

Key	Value
Comprehension	MCQ

सूची I का सूची II से मिलान कीजिए

सूची I प्रशिक्षण की विधियाँ	सूची II विशेषताएं
A. अनुशिक्षण	I. इसमें प्रशिक्षक को मुख्य कर्मचारी के दिशा-निर्देशन में रखा जाता है।
B. फिल्म	II. श्रेष्ठ (प्रवर) कोच के रूप में प्रशिक्षक को दिशा-निर्देशन एवं अनुदेश देता है।
C. प्रकोष्ठ	III. सूचना उपलब्ध कराता है और अन्य प्रविधियों द्वारा आसानी से प्रस्तुत नहीं किए जाने वाले कौशलों को सुस्पष्ट रूप से प्रदर्शित करत है।
D. नवप्रशिक्षण कार्यक्रम	IV. कर्मचारी अपने कार्य को उपकरण पर सीखते हैं किन्तु प्रशिक्षण वास्तविक कार्य स्थल से दूर कराया जाता है।

निम्नलिखित विकल्पों में से सही उत्तर का चयन कीजिए :

1. A-I, B-II, C-III, D-IV
2. A-IV, B-III, C-II, D-I
3. A-II, B-I, C-III, D-IV
4. A-II, B-III, C-IV, D-I

Options :

485584151957. 1
485584151958. 2
485584151959. 3
485584151960. 4

Question Number : 276 Question Id : 48558437991 Question Type : MCQ Option Shuffling : No Is Question Mandatory : No Calculator : None
Response Time : N.A Think Time : N.A Minimum Instruction Time : 0

Correct Marks : 5 Wrong Marks : 1

Question Key Details :

Key	Value
Comprehension	MCQ

'Delegation does not mean abdication'.

Which of the following best describes the above statement ?

1. Manager remains accountable for the performance of assigned task
2. Manager is not responsible for the assigned task
3. Manager has a right to take action
4. Manager has an obligation towards his subordinate

Options :

- 485584151961. 1
- 485584151962. 2
- 485584151963. 3
- 485584151964. 4

Question Number : 276 Question Id : 48558437991 Question Type : MCQ Option Shuffling : No Is Question Mandatory : No Calculator : None
Response Time : N.A Think Time : N.A Minimum Instruction Time : 0

Correct Marks : 5 Wrong Marks : 1

Question Key Details :

Key	Value
Comprehension	MCQ

"प्रत्याखोजन (अंतरण) का अर्थ परित्याग नहीं है" उपर्युक्त कथन को निम्नलिखित कौन सर्वाधिक अच्छी तरह से वर्णित करता है ?

1. प्रबंधक निर्दिष्ट कार्य के निष्पादन हेतु जिम्मेवार होते हैं
2. प्रबंधक निर्दिष्ट कार्य के लिए उत्तरदायी नहीं होते हैं
3. प्रबंधक के पास कार्रवाई करने का अधिकार होता है
4. प्रबंधक की अपने अधीनस्थ के प्रति बाध्यता होती है

Options :

- 485584151961. 1
- 485584151962. 2
- 485584151963. 3
- 485584151964. 4

Question Number : 277 Question Id : 48558437992 Question Type : MCQ Option Shuffling : No Is Question Mandatory : No Calculator : None
Response Time : N.A Think Time : N.A Minimum Instruction Time : 0

Correct Marks : 5 Wrong Marks : 1

Question Key Details :

Key	Value
Comprehension	MCQ

This type of structure has chances of spreading rumours which becomes a destructive force -

1. Informal Organisation
2. Formal Organisation
3. Functional Structure
4. Divisional Structure

Options :

- 485584151965. 1
- 485584151966. 2
- 485584151967. 3
- 485584151968. 4

Question Number : 277 Question Id : 48558437992 Question Type : MCQ Option Shuffling : No Is Question Mandatory : No Calculator : None Response Time : N.A Think Time : N.A Minimum Instruction Time : 0

Correct Marks : 5 Wrong Marks : 1

Question Key Details :

Key	Value
Comprehension	MCQ

इस प्रकार की संरचना में अफवाहों के फैलने के अवसर होते हैं जो विध्वंसकारी शक्ति बन जाती है।

1. अनौपचारिक संगठन
2. औपचारिक संगठन
3. प्रकार्यात्मक संरचना
4. प्रभागीय संरचना

Options :

- 485584151965. 1
- 485584151966. 2
- 485584151967. 3
- 485584151968. 4

Question Number : 278 Question Id : 48558437993 Question Type : MCQ Option Shuffling : No Is Question Mandatory : No Calculator : None Response Time : N.A Think Time : N.A Minimum Instruction Time : 0

Correct Marks : 5 Wrong Marks : 1

Question Key Details :

Key	Value
Comprehension	MCQ

Even the most efficient managers can not handle all the work himself. So it is a pre-requisite to the efficient functioning of an organisation which enables him to focus on high priority activities. Identify the term being reflected above.

1. Functional Structure
2. Divisional Structure
3. Delegation
4. Decentralisation

Options :

- 485584151969. 1
- 485584151970. 2
- 485584151971. 3

Question Number : 278 Question Id : 48558437993 Question Type : MCQ Option Shuffling : No Is Question Mandatory : No Calculator : None
Response Time : N.A Think Time : N.A Minimum Instruction Time : 0

Correct Marks : 5 Wrong Marks : 1

Question Key Details :

Key	Value
Comprehension	MCQ

यहाँ तक कि सर्वाधिक कुशल प्रबंधक भी सभी कार्यों का निष्पादन स्वयं से नहीं कर सकते। इसलिए यह किसी संगठन के कुशल क्रियान्वयन हेतु पूर्वपिछा है, जो उन्हें उच्च वरीयता वाली गतिविधियों पर ध्यान केन्द्रित करने में सक्षम बनाती है।
उपर प्रस्तुत किए गए पद की पहचान कीजिए।

1. क्रियात्मक (प्रकार्यात्मक) संरचना
2. प्रभागीय संरचना
3. अंतरण (प्रत्यायोजन)
4. विकेन्द्रीकरण

Options :

485584151969. 1
485584151970. 2
485584151971. 3
485584151972. 4

Question Number : 279 Question Id : 48558437994 Question Type : MCQ Option Shuffling : No Is Question Mandatory : No Calculator : None
Response Time : N.A Think Time : N.A Minimum Instruction Time : 0

Correct Marks : 5 Wrong Marks : 1

Question Key Details :

Key	Value
Comprehension	MCQ

Aakash delegated some of his non-core activities to Sumit, his subordinate. It developed Sumit's ability to deal effectively with challenges and helped him to realise his full potential. Identify the importance of organizing from the given paragraph.

1. Development of Personnel
2. Adaptation to Change
3. Expansion & Growth
4. Benefits of Specialisation

Options :

485584151973. 1
485584151974. 2
485584151975. 3
485584151976. 4

Question Number : 279 Question Id : 48558437994 Question Type : MCQ Option Shuffling : No Is Question Mandatory : No Calculator : None
Response Time : N.A Think Time : N.A Minimum Instruction Time : 0

Correct Marks : 5 Wrong Marks : 1

Question Key Details :

Key	Value
Comprehension	MCQ

आकाश ने अपने कुछ गैर-प्रमुख क्रियाकलाप (गतिविधियों) को अपने अधीनस्थ सुमित को अंतरित (प्रत्यापोजित) किया। इसने सुमित की चुनौतियों के साथ प्रभावी ढंग से निपटने की क्षमता का विकास किया और अपनी पूर्ण संभाव्यता (क्षमता) को जानने में उसको सहायता की। दिए गए गद्यांश से संगठन के महत्त्व की पहचान कीजिए।

1. कार्मिक का विकास
2. परिवर्तन का अंगीकरण
3. विस्तार एवं संवृद्धि
4. विशेषज्ञता के लाभ

Options :

485584151973. 1
485584151974. 2
485584151975. 3
485584151976. 4

Question Number : 280 Question Id : 48558437995 Question Type : MCQ Option Shuffling : No Is Question Mandatory : No Calculator : None Response Time : N.A Think Time : N.A Minimum Instruction Time : 0

Correct Marks : 5 Wrong Marks : 1

Question Key Details :

Key	Value
Comprehension	MCQ

Identify the type of plan shown in the given notice that was placed at the entrance of a business organisation:

"All visitors must carry a valid visitors pass at all times when visiting the organisation."

1. Rule
2. Policy
3. Procedure
4. Method

Options :

485584151977. 1
485584151978. 2
485584151979. 3
485584151980. 4

Question Number : 280 Question Id : 48558437995 Question Type : MCQ Option Shuffling : No Is Question Mandatory : No Calculator : None Response Time : N.A Think Time : N.A Minimum Instruction Time : 0

Correct Marks : 5 Wrong Marks : 1

Question Key Details :

Key	Value
Comprehension	MCQ

दी गयी टिप्पणी (नोटिस) में प्रदर्शित योजना के उस प्रकार की पहचान कीजिए जिसे व्यापार संगठन में प्रवेश के समय रखा गया था ?

सभी दर्शकों को हर समय अपने पास एक वैध पास अवश्य रखना चाहिए जब वे संगठन में निरीक्षण करने के लिए जाते हों

1. नियम
2. नीति
3. प्रक्रिया
4. विधि

Options :

485584151977. 1
485584151978. 2
485584151979. 3
485584151980. 4

Question Number : 281 Question Id : 48558437996 Question Type : MCQ Option Shuffling : No Is Question Mandatory : No Calculator : None Response Time : N.A Think Time : N.A Minimum Instruction Time : 0

Correct Marks : 5 Wrong Marks : 1

Question Key Details :

Key	Value
Comprehension	MCQ

Match List I with List II

LIST I Steps of planning process		LIST II Indicators	
A.	Setting objectives	I.	Assumption about future
B.	Developing premises	II.	Increase in sale by 20%
C.	Follow up action	III.	Seeing positive and negative aspects of proposals
D.	Evaluating alternative course of actions	IV.	Monitoring the plan

Choose the correct answer from the options given below:

1. A-II, B-IV, C-III, D-I
2. A-II, B-III, C-IV, D-I
3. A-I, B-II, C-III, D-IV
4. A-II, B-I, C-IV, D-III

Options :

485584151981. 1
485584151982. 2
485584151983. 3
485584151984. 4

Question Number : 281 Question Id : 48558437996 Question Type : MCQ Option Shuffling : No Is Question Mandatory : No Calculator : None Response Time : N.A Think Time : N.A Minimum Instruction Time : 0

Correct Marks : 5 Wrong Marks : 1

Question Key Details :

Key	Value
Comprehension	MCQ

सूची I का सूची II से मिलान कीजिए

सूची I नियोजन प्रक्रिया के चरण		सूची II संकेतक	
A.	उद्देश्य निर्धारित करना	I.	भविष्य के बारे में पूर्वानुमान
B.	आधारिकताओं को विकसित करना	II.	बिजली में 20% की वृद्धि
C.	अनुवर्ती कार्रवाई	III.	प्रस्तावों के सकारात्मक एवं नकारात्मक पहलुओं को जाँचना
D.	वैकल्पिक रास्ते का मूल्यांकन करना	IV.	योजना का अनुवीक्षण करना

निम्नलिखित विकल्पों में से सही उत्तर का चयन कीजिए :

1. A-II, B-IV, C-III, D-I
2. A-II, B-III, C-IV, D-I
3. A-I, B-II, C-III, D-IV
4. A-II, B-I, C-IV, D-III

Options :

485584151981. 1
485584151982. 2
485584151983. 3
485584151984. 4

Question Number : 282 Question Id : 48558437997 Question Type : MCQ Option Shuffling : No Is Question Mandatory : No Calculator : None Response Time : N.A Think Time : N.A Minimum Instruction Time : 0

Correct Marks : 5 Wrong Marks : 1

Question Key Details :

Key	Value
Comprehension	MCQ

Identify the correct sequence of steps in the process of planning.

- A. Setting objectives
- B. Identifying alternative courses of action
- C. Developing premises
- D. Selecting an alternative
- E. Evaluating alternative courses of action

Choose the correct answer from the options given below:

1. A, C, D, B, E
2. C, D, B, A, E
3. A, C, B, E, D
4. D, E, B, A, C

Options :

485584151985. 1
485584151986. 2
485584151987. 3
485584151988. 4

Question Number : 282 Question Id : 48558437997 Question Type : MCQ Option Shuffling : No Is Question Mandatory : No Calculator : None Response Time : N.A Think Time : N.A Minimum Instruction Time : 0

Correct Marks : 5 Wrong Marks : 1

Question Key Details :

Key	Value
Comprehension	MCQ

नियोजन की प्रक्रिया में आने वाले चरणों (सोपानों) के सही अनुक्रम की पहचान कीजिए।

- A. उद्देश्य निर्धारित करना
- B. वैकल्पिक रास्ते का पता लगाना
- C. आधारिकाओं को विकसित करना
- D. विकल्प का चयन करना
- E. वैकल्पिक रास्ते का मूल्यांकन करना

नीचे दिए गए विकल्पों में से सही विकल्प का चुनाव करें :

- 1. A, C, D, B, E
- 2. C, D, B, A, E
- 3. A, C, B, E, D
- 4. D, E, B, A, C

Options :

- 485584151985. 1
- 485584151986. 2
- 485584151987. 3
- 485584151988. 4

Question Number : 283 Question Id : 48558437998 Question Type : MCQ Option Shuffling : No Is Question Mandatory : No Calculator : None Response Time : N.A Think Time : N.A Minimum Instruction Time : 0

Correct Marks : 5 Wrong Marks : 1

Question Key Details :

Key	Value
Comprehension	MCQ

Which type of plan provides a basis for interpreting strategies which is usually stated in general terms to guide managerial action and decisions in the implementation of strategy ?

- 1. Objective
- 2. Policy
- 3. Rule
- 4. Programme

Options :

- 485584151989. 1
- 485584151990. 2
- 485584151991. 3
- 485584151992. 4

Question Number : 283 Question Id : 48558437998 Question Type : MCQ Option Shuffling : No Is Question Mandatory : No Calculator : None Response Time : N.A Think Time : N.A Minimum Instruction Time : 0

Correct Marks : 5 Wrong Marks : 1

Question Key Details :

Key	Value
Comprehension	MCQ

उन कार्य नीतियों की व्याख्या करने हेतु एक आधार प्रदान करने वाले कौन से प्रकार है जिन कार्यनीति के क्रियान्वयन में प्रबंधकीय कार्यवाही और निर्णयों हेतु सामान्यतः व्यक्त की गयी होती है।

1. उद्देश्य
2. नीति
3. नियम
4. कार्यक्रम

Options :

485584151989. 1
 485584151990. 2
 485584151991. 3
 485584151992. 4

Question Number : 284 Question Id : 48558437999 Question Type : MCQ Option Shuffling : No Is Question Mandatory : No Calculator : None Response Time : N.A Think Time : N.A Minimum Instruction Time : 0

Correct Marks : 5 Wrong Marks : 1

Question Key Details :

Key	Value
Comprehension	MCQ

Match List I with List II

LIST I Dimensions of Business Environment		LIST II Factors	
A.	Social Environment	I.	Changes in disposable Income
B.	Legal Environment	II.	Stability and peace in the Country
C.	Economic Environment	III.	Court Judgements
D.	Political Environment	IV.	Customs and Traditions

Choose the correct answer from the options given below:

1. A-II, B-I, C-IV, D-III
2. A-I, B-II, C-III, D-IV
3. A-III, B-IV, C-II, D-I
4. A-IV, B-III, C-I, D-II

Options :

485584151993. 1
 485584151994. 2
 485584151995. 3
 485584151996. 4

Question Number : 284 Question Id : 48558437999 Question Type : MCQ Option Shuffling : No Is Question Mandatory : No Calculator : None Response Time : N.A Think Time : N.A Minimum Instruction Time : 0

Correct Marks : 5 Wrong Marks : 1

Question Key Details :

Key	Value
Comprehension	MCQ

सूची I का सूची II से मिलान कीजिए

सूची I व्यावसायिक पर्यावरण के आयाम		सूची II कारक	
A.	सामाजिक पर्यावरण	I.	प्रयोज्य आप में परिवर्तन
B.	वित्तीय पर्यावरण	II.	देश में स्थिरता एवं शान्ति
C.	आर्थिक पर्यावरण	III.	न्यायालय के निर्णय
D.	राजनितिक पर्यावरण	IV.	प्रथाएं एवं परिपराएं

निम्नलिखित विकल्पों में से सही उत्तर का चयन कीजिए :

1. A-II, B-I, C-IV, D-III
2. A-I, B-II, C-III, D-IV
3. A-III, B-IV, C-II, D-I
4. A-IV, B-III, C-I, D-II

Options :

485584151993. 1
485584151994. 2
485584151995. 3
485584151996. 4

Question Number : 285 Question Id : 48558438000 Question Type : MCQ Option Shuffling : No Is Question Mandatory : No Calculator : None Response Time : N.A Think Time : N.A Minimum Instruction Time : 0

Correct Marks : 5 Wrong Marks : 1

Question Key Details :

Key	Value
Comprehension	MCQ

Which of the following are the major elements of the political environment ?

- A. Planned outlay in private & public sectors
- B. Nature of relationship of our country with foreign countries
- C. Population shifts
- D. Money supply in the economy
- E. The extent and nature of government intervention in business

Choose the correct answer from the options given below:

1. A, B and C only
2. B and E only
3. A, C and E only
4. C and D only

Options :

485584151997. 1
485584151998. 2
485584151999. 3
485584152000. 4

Question Number : 285 Question Id : 48558438000 Question Type : MCQ Option Shuffling : No Is Question Mandatory : No Calculator : None Response Time : N.A Think Time : N.A Minimum Instruction Time : 0

Correct Marks : 5 Wrong Marks : 1

Question Key Details :

Key	Value
Comprehension	MCQ

राजनितिक पर्यावरण के निम्नलिखित में से कौन-से प्रमुख तत्व हैं ?

- A. निजी एवं सार्वजनिक क्षेत्रों में योजना लागत
- B. देशों के साथ हमारे देश के संबंध की प्रकृति
- C. जनसंख्या बदलाव (परिवर्तन)
- D. अर्थव्यवस्था में मुद्रा आपूर्ति
- E. व्यापार में सरकारी हस्तक्षेप की स्थिति एवं प्रकृति

नीचे दिए गए विकल्पों में से सही विकल्प का चुनाव करें :

- 1. केवल A, B और C
- 2. केवल B और E
- 3. केवल A, C और E
- 4. केवल C और D

Options :

- 485584151997. 1
- 485584151998. 2
- 485584151999. 3
- 485584152000. 4

Question Number : 286 Question Id : 48558438001 Question Type : MCQ Option Shuffling : No Is Question Mandatory : No Calculator : None Response Time : N.A Think Time : N.A Minimum Instruction Time : 0

Correct Marks : 5 Wrong Marks : 1

Question Key Details :

Key	Value
Comprehension	MCQ

Nowadays customers have become well aware about the different varieties of product available in the market. Before purchasing the product, the customers read the reviews about the product, compare the prices of different varieties available etc.

The above case refers to the impact of government policy changes on businesses. Identify the correct option.

- 1. Increasing competition
- 2. Rapidly changing technological environment
- 3. More demanding customers
- 4. Market orientation

Options :

- 485584152001. 1
- 485584152002. 2
- 485584152003. 3
- 485584152004. 4

Question Number : 286 Question Id : 48558438001 Question Type : MCQ Option Shuffling : No Is Question Mandatory : No Calculator : None Response Time : N.A Think Time : N.A Minimum Instruction Time : 0

Correct Marks : 5 Wrong Marks : 1

Question Key Details :

Key	Value
Comprehension	MCQ

आजकल ग्राहक बाजार में उपलब्ध उत्पाद के विभिन्न संस्करणों के बारे में भलीभांति जगसूक हो चुके हैं। सामान खरीदने के पहले ग्राहक उत्पाद के बारे में आए हुए विचारों को पढ़ते हैं, उपलब्ध विभिन्न संस्करणों की कीमतों में तुलना करते हैं इत्यादि।

उपर्युक्त प्रकरण (केस) व्यापार में सरकारी नीति में परिवर्तनों का प्रभाव से संबंधित है। सही विकल्प की पहचान कीजिए।

1. बढ़ती हुई प्रतिस्पर्धा
2. तेजी से बदलता हुआ प्रौद्योगिकीय वातावरण
3. और अधिक मांगकर्ता ग्राहक
4. बाजार अभिविन्यास

Options :

485584152001. 1
485584152002. 2
485584152003. 3
485584152004. 4

Question Number : 287 Question Id : 48558438002 Question Type : MCQ Option Shuffling : No Is Question Mandatory : No Calculator : None Response Time : N.A Think Time : N.A Minimum Instruction Time : 0

Correct Marks : 5 Wrong Marks : 1

Question Key Details :

Key	Value
Comprehension	MCQ

Identify the principle of management referred here: "A manager should replace 'I' with 'We' in all his conversations with workers to foster team spirit."

1. Espirit De Corps
2. Initiative
3. Stability of Personnel
4. Equity

Options :

485584152005. 1
485584152006. 2
485584152007. 3
485584152008. 4

Question Number : 287 Question Id : 48558438002 Question Type : MCQ Option Shuffling : No Is Question Mandatory : No Calculator : None Response Time : N.A Think Time : N.A Minimum Instruction Time : 0

Correct Marks : 5 Wrong Marks : 1

Question Key Details :

Key	Value
Comprehension	MCQ

प्रबंधन के उस सिद्धांत को पहचानिए जिसका यहाँ उल्लेख किया गया है "किसी प्रबंधक को कर्मचारियों के साथ अपनी सभी प्रकार की बातचीत के दौरान दल भावना को बनाए रखने हेतु 'मैं' को 'हम' के साथ प्रतिस्थापित कर देना चाहिए।"

1. संघभाव (दल-भाव)
2. पहल
3. कार्मिक का स्थायित्व
4. समता (एछिटी)

Options :

485584152005. 1
485584152006. 2
485584152007. 3
485584152008. 4

Question Number : 288 Question Id : 48558438003 Question Type : MCQ Option Shuffling : No Is Question Mandatory : No Calculator : None Response Time : N.A Think Time : N.A Minimum Instruction Time : 0

Correct Marks : 5 Wrong Marks : 1

Question Key Details :

Key	Value
Comprehension	MCQ

Identify the technique of Scientific Management which is contradictory to the principle of Unity of Command.

1. Time Study
2. Motion Study
3. Functional Foremanship
4. Work Study

Options :

485584152009. 1
485584152010. 2
485584152011. 3
485584152012. 4

Question Number : 288 Question Id : 48558438003 Question Type : MCQ Option Shuffling : No Is Question Mandatory : No Calculator : None Response Time : N.A Think Time : N.A Minimum Instruction Time : 0

Correct Marks : 5 Wrong Marks : 1

Question Key Details :

Key	Value
Comprehension	MCQ

उस वैज्ञानिक प्रबंधन की वैज्ञानिक प्रविधि को पहचानिए जो कि अनुदेश के एकत्व (युनिटी ऑफ कमांड) के सिद्धांत के विपरीत है ?

1. समय अध्ययन
2. गति अध्ययन
3. प्रकार्यात्मक फोरमैन शिप
4. कार्य अध्ययन

Options :

485584152009. 1
485584152010. 2

485584152011. 3
485584152012. 4

Question Number : 289 Question Id : 48558438004 Question Type : MCQ Option Shuffling : No Is Question Mandatory : No Calculator : None
Response Time : N.A Think Time : N.A Minimum Instruction Time : 0
Correct Marks : 5 Wrong Marks : 1

Question Key Details :

Key	Value
Comprehension	MCQ

From the following statements: choose what all is true about Fayol;

- A. He gave general principles of management
- B. Time study is the contribution of Fayol
- C. He is known as the Father of Scientific Management.
- D. He graduated from a mining academy of St. Etienne.
- E. Scalar Chain is one of the principle of 14 Principle of Management given by him.

Choose the correct answer from the options given below:

- 1. A, B and C only
- 2. A and E only
- 3. A, B, C and E only
- 4. A, D and E only

Options :

485584152013. 1
485584152014. 2
485584152015. 3
485584152016. 4

Question Number : 289 Question Id : 48558438004 Question Type : MCQ Option Shuffling : No Is Question Mandatory : No Calculator : None
Response Time : N.A Think Time : N.A Minimum Instruction Time : 0
Correct Marks : 5 Wrong Marks : 1

Question Key Details :

Key	Value
Comprehension	MCQ

निम्नलिखित कथनों में से, कौन-से फेयोल के बारे में सही है ?

- A. उन्होंने प्रबन्धन के सामान्य सिद्धांतों को प्रस्तुत किया।
- B. समय अध्ययन फेयोल का योगदान है।
- C. उनको विज्ञानिक प्रबंध का जनक कहा जाता है।
- D. वे सेंट एटिएन्ने के माइनिंग अकादमी से डिग्री हासिल किए थे।
- E. सोपान श्रृंखला प्रबंध के 14 सिद्धान्तों में से एक है जो फेयोल ने दिया था।

नीचे दिए गए विकल्पों में से सही विकल्प का चुनाव करें :

- 1. केवल A, B और C
- 2. केवल A और E
- 3. केवल A, B, C और E
- 4. केवल A, D और E

Options :

485584152013. 1
485584152014. 2
485584152015. 3

Question Number : 290 Question Id : 48558438005 Question Type : MCQ Option Shuffling : No Is Question Mandatory : No Calculator : None
Response Time : N.A Think Time : N.A Minimum Instruction Time : 0

Correct Marks : 5 Wrong Marks : 1

Question Key Details :

Key	Value
Comprehension	MCQ

Match List I with List II

LIST I Application of Principles		LIST II Fayol's Principles	
A.	People and material must be in suitable places at appropriate time for maximum efficiency	I.	Esprit De Corps
B.	This principle resembles military organisation wherein dual subordination should be avoided	II.	Order
C.	It will minimise the need for using penalties.	III.	Stability of personnel
D.	Employees should be given reasonable time to show results	IV.	Unity of Command

Choose the correct answer from the options given below:

1. A-II, B-I, C-IV, D-III
2. A-IV, B-II, C-III, D-I
3. A-II, B-IV, C-I, D-III
4. A-III, B-II, C-I, D-IV

Options :

485584152017. 1
485584152018. 2
485584152019. 3
485584152020. 4

Question Number : 290 Question Id : 48558438005 Question Type : MCQ Option Shuffling : No Is Question Mandatory : No Calculator : None
Response Time : N.A Think Time : N.A Minimum Instruction Time : 0

Correct Marks : 5 Wrong Marks : 1

Question Key Details :

Key	Value
Comprehension	MCQ

सूची I का सूची II से मिलान कीजिए

सूची I सिद्धांतों का प्रयोग		सूची II फेयाल के सिद्धांत	
A.	लोग और सामग्री अधिकतम कुशलता हेतु उचित समय पर उपयुक्त स्थान पर होने चाहिए	I.	संघर्षभाव
B.	यह सिद्धांत उस सैन्य संगठन के समरूप्य होता है जिसमें दोहरे अधीनस्थन से बचा जाना चाहिए	II.	आदेश
C.	यह शास्तियों के उपयोग की आवश्यकता कम करेगा	III.	कार्मिक का स्थायित्व
D.	कर्मचारियों को परिणाम प्रदर्शित करने के लिए तर्कसंगत (पर्याप्त) समय प्रदत्त किया जाना चाहिए	IV.	अनुदेश का समत्व

निम्नलिखित विकल्पों में से सही उत्तर का चयन कीजिए :

1. A-II, B-I, C-IV, D-III
2. A-IV, B-II, C-III, D-I
3. A-II, B-IV, C-I, D-III
4. A-III, B-II, C-I, D-IV

Options :

485584152017. 1
485584152018. 2
485584152019. 3
485584152020. 4

Sub-Section Number : 2
Sub-Section Id : 4855842910
Question Shuffling Allowed : No
Is Section Default? : null

Question Number : 291 Question Id : 48558438006 Question Type : MCQ Option Shuffling : No Is Question Mandatory : No Calculator : None
Response Time : N.A Think Time : N.A Minimum Instruction Time : 0

Correct Marks : 5 Wrong Marks : 1

Question Key Details :

Key	Value
Comprehension	Compl

Read the following case and answer the questions carefully:

F. India Ltd. is a chain of ladies garment boutiques where most of the work is done on hand made basis or manually. Mr. N is responsible for the growth, survival and welfare of the firm. He formulates overall organisational goal and strategies for their achievement. Due to entry of imported brands in India, the company is finding it difficult to compete on two fronts-finishing and embroidery work. Mr. G, the production manager of the company, realised that without modern machines, it would not be possible for them to survive in the long run. The company purchased new hi-tech modern machines from abroad.

During the production process, the manager observed that the quality of production is not as per standard and very often production is disrupted due to break down of machinery. The workers got frustrated by continuous rejection of output and started showing resistance towards new technology. To increase the efficiency of the workers, the company decided to train their workers on the job under the able guidance of specialists. The workers who are able to pick the skills are promoted and made incharge of the not well trained employees. This created positive impact and everybody became keen to learn. Suggestions from workers are valued and workers are encouraged to communicate freely.

At which level of management is Mr. N working in F. India Ltd.?

1. Top Level Management
2. Middle Level Management
3. Operational Level Management
4. Ground Level Management

Options :

485584152021. 1
485584152022. 2
485584152023. 3
485584152024. 4

Question Number : 291 Question Id : 48558438006 Question Type : MCQ Option Shuffling : No Is Question Mandatory : No Calculator : None
Response Time : N.A Think Time : N.A Minimum Instruction Time : 0

Correct Marks : 5 Wrong Marks : 1

Question Key Details :

Key	Value
Comprehension	Compl

नीचे दिए गए गद्यांश को पढ़िए एवं प्रश्न का सावधानीपूर्वक उत्तर दीजिए।

एफ. इंडिया लिमिटेड महिला वस्त्र बुटीक की एक श्रृंखला है जहाँ पर अधिकांश काम हस्त निर्मित आधार पर किया जाता है। मिस्टर N फर्म की संवृद्धि (विकास) उत्तरजीविता और कल्याण के लिए उत्तरदायी है। वह समग्र संगठनात्मक लक्ष्यों को बनाता है और उनकी प्राप्ति के लिए कार्यनीतियों को बनाता है। भारत में आयातित ब्रांडों के प्रवेश के कारण कंपनी को फिनिशिंग और कढ़ाई (एम्ब्रायडरी) कार्यों संबंधी दोनों मोर्चों पर प्रतिस्पर्धा में कठिनाई का सामना कर पड़ रहा है। कंपनी के उत्पादन प्रबंधक मिस्टर जी महसूस करते हैं कि बिना आधुनिक मशीनों के उनकी कंपनी को लंबे समय तक बनाये रखा संभव नहीं होगा। कंपनी ने विदेश से नयी उच्च तकनीक वाली मशीन को खरीदा।

उत्पादन प्रक्रिया के दौरान, प्रबंधक ने पाया कि उत्पादन की गुणवत्ता मानक के अनुसार नहीं है और प्रायः मशीनरी के खराब हो जाने से उत्पादन बाधित हो जाता है। कर्मचारी उत्पाद के लगातार नकारे जाने से हतोत्साहित हो रहे हैं और नयी प्रौद्योगिकी के प्रति अपना प्रतिरोध व्यक्त करना प्रारंभ कर दिया है। कर्मचारियों की कुशलता में वृद्धि हेतु कंपनी ने निर्णय लिया है कि वे अपने कर्मचारियों को उनके कार्य में विशेषज्ञों के दिशा-निर्देशन में प्रशिक्षण प्रदान करेगी। वे कर्मचारी जो कौशल को प्राप्त कर लिए हैं, उनकी पदोन्नति कर दी गयी है और अच्छी तरह से नहीं प्रशिक्षित हो पाए कर्मचारियों का उन्हें इंचार्ज (प्रभारी) बनाया गया है। इस निर्णय ने सकारात्मक प्रभाव उत्पन्न किया है और प्रत्येक व्यक्ति सीखने के लिए उत्सुक हैं। कर्मचारियों से लिए जाने वाले सुझाव मूल्यवान हैं और कर्मचारियों को स्वतंत्र ढंग से संप्रेषण के लिए प्रोत्साहित किया गया है।

एक इंडिया लिमिटेड में मिस्टर एन, प्रबंधन के किस स्तर पर कार्यरत हैं ?

1. शीर्ष स्तर प्रबंधन
2. मध्य स्तर प्रबंधन
3. परिचालनात्मक स्तर प्रबंधन
4. जमीनी स्तर प्रबंधन

Options :

485584152021. 1
485584152022. 2
485584152023. 3
485584152024. 4

Question Number : 292 Question Id : 48558438007 Question Type : MCQ Option Shuffling : No Is Question Mandatory : No Calculator : None Response Time : N.A Think Time : N.A Minimum Instruction Time : 0

Correct Marks : 5 Wrong Marks : 1

Question Key Details :

Key	Value
Comprehension	Compl

Read the following case and answer the questions carefully:

F. India Ltd. is a chain of ladies garment boutiques where most of the work is done on hand made basis or manually. Mr. N is responsible for the growth, survival and welfare of the firm. He formulates overall organisational goal and strategies for their achievement. Due to entry of imported brands in India, the company is finding it difficult to compete on two fronts-finishing and embroidery work. Mr. G, the production manager of the company, realised that without modern machines, it would not be possible for them to survive in the long run. The company purchased new hi-tech modern machines from abroad.

During the production process, the manager observed that the quality of production is not as per standard and very often production is disrupted due to break down of machinery. The workers got frustrated by continuous rejection of output and started showing resistance towards new technology. To increase the efficiency of the workers, the company decided to train their workers on the job under the able guidance of specialists. The workers who are able to pick the skills are promoted and made incharge of the not well trained employees. This created positive impact and everybody became keen to learn. Suggestions from workers are valued and workers are encouraged to communicate freely.

At which level of management is Mr. G working in F. India Ltd ?

1. Top Level Management
2. Middle Level Management
3. Operational Level Management
4. Ground Level Management

Options :

485584152025. 1
485584152026. 2
485584152027. 3
485584152028. 4

Question Number : 292 Question Id : 48558438007 Question Type : MCQ Option Shuffling : No Is Question Mandatory : No Calculator : None Response Time : N.A Think Time : N.A Minimum Instruction Time : 0

Correct Marks : 5 Wrong Marks : 1

Question Key Details :

Key	Value
Comprehension	Compl

नीचे दिए गए गद्यांश को पढ़िए एवं प्रश्न का सावधानीपूर्वक उत्तर दीजिए।

एफ. इंडिया लिमिटेड महिला वस्त्र बुटीक की एक श्रृंखला है जहाँ पर अधिकांश काम हस्त निर्मित आधार पर किया जाता है। मिस्टर N फर्म की संवृद्धि (विकास) उत्तरजीविता और कल्याण के लिए उत्तरदायी है। वह समग्र संगठनात्मक लक्ष्यों को बनाता है और उनकी प्राप्ति के लिए कार्यनीतियों को बनाता है। भारत में आयातित ब्रांडों के प्रवेश के कारण कंपनी को फिनिशिंग और कढ़ाई (एम्ब्रायडरी) कार्यों संबंधी दोनों मोर्चों पर प्रतिस्पर्धा में कठिनाई का सामना कर पड़ रहा है। कंपनी के उत्पादन प्रबंधक मिस्टर जी महसूस करते हैं कि बिना आधुनिक मशीनों के उनकी कंपनी को लंबे समय तक बनाये रखा संभव नहीं होगा। कंपनी ने विदेश से नयी उच्च तकनीक वाली मशीन को खरीदा।

उत्पादन प्रक्रिया के दौरान, प्रबंधक ने पाया कि उत्पादन की गुणवत्ता मानक के अनुसार नहीं है और प्रायः मशीनरी के खराब हो जाने से उत्पादन बाधित हो जाता है। कर्मचारी उत्पाद के लगातार नकारे जाने से हतोत्साहित हो रहे हैं और नयी प्रौद्योगिकी के प्रति अपना प्रतिरोध व्यक्त करना प्रारंभ कर दिया है। कर्मचारियों की कुशलता में वृद्धि हेतु कंपनी ने निर्णय लिया है कि वे अपने कर्मचारियों को उनके कार्य में विशेषज्ञों के दिशा-निर्देशन में प्रशिक्षण प्रदान करेगी। वे कर्मचारी जो कौशल को प्राप्त कर लिए हैं, उनकी पदोन्नति कर दी गयी है और अच्छी तरह से नहीं प्रशिक्षित हो पाए कर्मचारियों का उन्हें इंचार्ज (प्रभारी) बनाया गया है। इस निर्णय ने सकारात्मक प्रभाव उत्पन्न किया है और प्रत्येक व्यक्ति सीखने के लिए उत्सुक हैं। कर्मचारियों से लिए जाने वाले सुझाव मूल्यवान हैं और कर्मचारियों को स्वतंत्र ढंग से संप्रेषण के लिए प्रोत्साहित किया गया है।

एफ. इंडिया लिमिटेड में मिस्टर जी, प्रबंधन के किस स्तर पर कार्यरत हैं ?

1. शीर्ष स्तर प्रबंधन
2. मध्य स्तर प्रबंधन
3. परिचालन स्तर प्रबंधन
4. जमीनी स्तर प्रबंधन

Options :

485584152025. 1
485584152026. 2
485584152027. 3
485584152028. 4

Question Number : 293 Question Id : 48558438008 Question Type : MCQ Option Shuffling : No Is Question Mandatory : No Calculator : None Response Time : N.A Think Time : N.A Minimum Instruction Time : 0

Correct Marks : 5 Wrong Marks : 1

Question Key Details :

Key	Value
Comprehension	Compl

Read the following case and answer the questions carefully:

F. India Ltd. is a chain of ladies garment boutiques where most of the work is done on hand made basis or manually. Mr. N is responsible for the growth, survival and welfare of the firm. He formulates overall organisational goal and strategies for their achievement. Due to entry of imported brands in India, the company is finding it difficult to compete on two fronts-finishing and embroidery work. Mr. G, the production manager of the company, realised that without modern machines, it would not be possible for them to survive in the long run. The company purchased new hi-tech modern machines from abroad.

During the production process, the manager observed that the quality of production is not as per standard and very often production is disrupted due to break down of machinery. The workers got frustrated by continuous rejection of output and started showing resistance towards new technology. To increase the efficiency of the workers, the company decided to train their workers on the job under the able guidance of specialists. The workers who are able to pick the skills are promoted and made incharge of the not well trained employees. This created positive impact and everybody became keen to learn. Suggestions from workers are valued and workers are encouraged to communicate freely.

"The workers who are able to pick the skills are promoted and made incharge of the not well trained employees. This created positive impact and everybody became keen to learn."

Identify the importance of Management highlighted here:

1. Management helps in achieving group goals
2. Management increases efficiency
3. Management creates dynamic organisation
4. Management helps in achieving personal objectives

Options :

- 485584152029. 1
- 485584152030. 2
- 485584152031. 3
- 485584152032. 4

Question Number : 293 Question Id : 48558438008 Question Type : MCQ Option Shuffling : No Is Question Mandatory : No Calculator : None Response Time : N.A Think Time : N.A Minimum Instruction Time : 0

Correct Marks : 5 Wrong Marks : 1

Question Key Details :

Key	Value
Comprehension	Compl

नीचे दिए गए गद्यांश को पढ़िए एवं प्रश्न का सावधानीपूर्वक उत्तर दीजिए।

एफ. इंडिया लिमिटेड महिला वस्त्र बुटीक की एक श्रृंखला है जहाँ पर अधिकांश काम हस्त निर्मित आधार पर किया जाता है। मिस्टर N फर्म की संवृद्धि (विकास) उत्तरजीविता और कल्याण के लिए उत्तरदायी है। वह समग्र संगठनात्मक लक्ष्यों को बनाता है और उनकी प्राप्ति के लिए कार्यनीतियों को बनाता है। भारत में आयातित ब्रांडों के प्रवेश के कारण कंपनी को फिनिशिंग और कढ़ाई (एम्ब्रायडरी) कार्यों संबंधी दोनों मोर्चों पर प्रतिस्पर्धा में कठिनाई का सामना कर पड़ रहा है। कंपनी के उत्पादन प्रबंधक मिस्टर जी महसूस करते हैं कि बिना आधुनिक मशीनों के उनकी कंपनी को लंबे समय तक बनाये रखा संभव नहीं होगा। कंपनी ने विदेश से नयी उच्च तकनीक वाली मशीन को खरीदा।

उत्पादन प्रक्रिया के दौरान, प्रबंधक ने पाया कि उत्पादन की गुणवत्ता मानक के अनुसार नहीं है और प्रायः मशीनरी के खराब हो जाने से उत्पादन बाधित हो जाता है। कर्मचारी उत्पाद के लगातार नकारे जाने से हतोत्साहित हो रहे हैं और नयी प्रौद्योगिकी के प्रति अपना प्रतिरोध व्यक्त करना प्रारंभ कर दिया है। कर्मचारियों की कुशलता में वृद्धि हेतु कंपनी ने निर्णय लिया है कि वे अपने कर्मचारियों को उनके कार्य में विशेषज्ञों के दिशा-निर्देशन में प्रशिक्षण प्रदान करेगी। वे कर्मचारी जो कौशल को प्राप्त कर लिए हैं, उनकी पदोन्नति कर दी गयी है और अच्छी तरह से नहीं प्रशिक्षित हो पाए कर्मचारियों का उन्हें इंचार्ज (प्रभारी) बनाया गया है। इस निर्णय ने सकारात्मक प्रभाव उत्पन्न किया है और प्रत्येक व्यक्ति सीखने के लिए उत्सुक हैं। कर्मचारियों से लिए जाने वाले सुझाव मूल्यवान हैं और कर्मचारियों को स्वतंत्र ढंग से संप्रेषण के लिए प्रोत्साहित किया गया है।

"वे कर्मचारी जो कौशल प्राप्त कर लेने में सक्षम हो गए हैं, उनकी पदोन्नति कर दी गयी और उन्हें अच्छी तरह से कौशल न प्राप्त के पाने वाले कर्मचारियों का प्रभारी बनाया गया है। इसने सकारात्मक प्रभाव उत्पन्न किया और प्रत्येक व्यक्ति सीखने के लिए उत्सुक हुआ।"

यहाँ पर रेखांकित किए गए प्रबंधन के महत्व की पहचान कीजिए

1. प्रबंधन सामूहिक लक्ष्यों को प्राप्त करने में सहायता करता है।
2. प्रबंधन से कुशलता में वृद्धि होती है।
3. प्रबंधन गतिशील संगठन सृजित करता है।
4. प्रबंधन निजी उद्देश्यों की प्राप्ति में सहायक होता है।

Options :

485584152029. 1
485584152030. 2
485584152031. 3
485584152032. 4

Question Number : 294 Question Id : 48558438009 Question Type : MCQ Option Shuffling : No Is Question Mandatory : No Calculator : None Response Time : N.A Think Time : N.A Minimum Instruction Time : 0

Correct Marks : 5 Wrong Marks : 1

Question Key Details :

Key	Value
Comprehension	Compl

Read the following case and answer the questions carefully:

F. India Ltd. is a chain of ladies garment boutiques where most of the work is done on hand made basis or manually. Mr. N is responsible for the growth, survival and welfare of the firm. He formulates overall organisational goal and strategies for their achievement. Due to entry of imported brands in India, the company is finding it difficult to compete on two fronts-finishing and embroidery work. Mr. G, the production manager of the company, realised that without modern machines, it would not be possible for them to survive in the long run. The company purchased new hi-tech modern machines from abroad.

During the production process, the manager observed that the quality of production is not as per standard and very often production is disrupted due to break down of machinery. The workers got frustrated by continuous rejection of output and started showing resistance towards new technology. To increase the efficiency of the workers, the company decided to train their workers on the job under the able guidance of specialists. The workers who are able to pick the skills are promoted and made incharge of the not well trained employees. This created positive impact and everybody became keen to learn. Suggestions from workers are valued and workers are encouraged to communicate freely.

Which of the following point of importance of Management is not discussed in above case study?

1. Management helps in development of society
2. Management increases efficiency
3. Management creates a dynamic organisation
4. Management helps in achieving personal objectives

Options :

485584152033. 1
485584152034. 2
485584152035. 3
485584152036. 4

Question Number : 294 Question Id : 48558438009 Question Type : MCQ Option Shuffling : No Is Question Mandatory : No Calculator : None Response Time : N.A Think Time : N.A Minimum Instruction Time : 0

Correct Marks : 5 Wrong Marks : 1

Question Key Details :

Key	Value
Comprehension	Comp1

नीचे दिए गए गद्यांश को पढ़िए एवं प्रश्न का सावधानीपूर्वक उत्तर दीजिए।

एफ. इंडिया लिमिटेड महिला वस्त्र बुटीक की एक श्रृंखला है जहाँ पर अधिकांश काम हस्त निर्मित आधार पर किया जाता है। मिस्टर N फर्म की संवृद्धि (विकास) उत्तरजीविता और कल्याण के लिए उत्तरदायी है। वह समग्र संगठनात्मक लक्ष्यों को बनाता है और उनकी प्राप्ति के लिए कार्यनीतियों को बनाता है। भारत में आयातित ब्रांडों के प्रवेश के कारण कंपनी को फिनिशिंग और कढ़ाई (एम्ब्रायडरी) कार्यों संबंधी दोनों मोर्चों पर प्रतिस्पर्धा में कठिनाई का सामना कर पड़ रहा है। कंपनी के उत्पादन प्रबंधक मिस्टर जी महसूस करते हैं कि बिना आधुनिक मशीनों के उनकी कंपनी को लंबे समय तक बनाये रखा संभव नहीं होगा। कंपनी ने विदेश से नयी उच्च तकनीक वाली मशीन को खरीदा।

उत्पादन प्रक्रिया के दौरान, प्रबंधक ने पाया कि उत्पादन की गुणवत्ता मानक के अनुसार नहीं है और प्रायः मशीनरी के खराब हो जाने से उत्पादन बाधित हो जाता है। कर्मचारी उत्पाद के लगातार नकारे जाने से हतोत्साहित हो रहे हैं और नयी प्रौद्योगिकी के प्रति अपना प्रतिरोध व्यक्त करना प्रारंभ कर दिया है। कर्मचारियों की कुशलता में वृद्धि हेतु कंपनी ने निर्णय लिया है कि वे अपने कर्मचारियों को उनके कार्य में विशेषज्ञों के दिशा-निर्देशन में प्रशिक्षण प्रदान करेगी। वे कर्मचारी जो कौशल को प्राप्त कर लिए हैं, उनकी पदोन्नति कर दी गयी है और अच्छी तरह से नहीं प्रशिक्षित हो पाए कर्मचारियों का उन्हें ईंचार्ज (प्रभारी) बनाया गया है। इस निर्णय ने सकारात्मक प्रभाव उत्पन्न किया है और प्रत्येक व्यक्ति सीखने के लिए उत्सुक हैं। कर्मचारियों से लिए जाने वाले सुझाव मूल्यवान हैं और कर्मचारियों को स्वतंत्र ढंग से संप्रेषण के लिए प्रोत्साहित किया गया है।

उपर्युक्त प्रकरण (केस) अध्ययन में प्रबंधन के महत्व के निम्नलिखित कौन-से बिंदु की चर्चा नहीं की गयी है ?

1. प्रबंधन समाज के विकास में सहायक होता है।
2. प्रबंधन से कुशलता में वृद्धि होती है।
3. प्रबंधन गतिशील संगठन का सृजन करता है।
4. प्रबंधन निजी उद्देश्यों को प्राप्त करने में सहायक होता है।

Options :

485584152033. 1
485584152034. 2
485584152035. 3
485584152036. 4

Question Number : 295 Question Id : 48558438010 Question Type : MCQ Option Shuffling : No Is Question Mandatory : No Calculator : None Response Time : N.A Think Time : N.A Minimum Instruction Time : 0

Correct Marks : 5 Wrong Marks : 1

Question Key Details :

Key	Value
Comprehension	Comp1

Read the following case and answer the questions carefully:

F. India Ltd. is a chain of ladies garment boutiques where most of the work is done on hand made basis or manually. Mr. N is responsible for the growth, survival and welfare of the firm. He formulates overall organisational goal and strategies for their achievement. Due to entry of imported brands in India, the company is finding it difficult to compete on two fronts-finishing and embroidery work. Mr. G, the production manager of the company, realised that without modern machines, it would not be possible for them to survive in the long run. The company purchased new hi-tech modern machines from abroad.

During the production process, the manager observed that the quality of production is not as per standard and very often production is disrupted due to break down of machinery. The workers got frustrated by continuous rejection of output and started showing resistance towards new technology. To increase the efficiency of the workers, the company decided to train their workers on the job under the able guidance of specialists. The workers who are able to pick the skills are promoted and made incharge of the not well trained employees. This created positive impact and everybody became keen to learn. Suggestions from workers are valued and workers are encouraged to communicate freely.

The workers who are able to pick the skills are promoted and made incharge of the different groups of workers. It refers the promotion taking place from which level to which level?

1. Middle to Top Management
2. Supervisory to Middle Management
3. Operatives to Operational Management
4. Operational to Supervisory Management

Options :

485584152037. 1
485584152038. 2
485584152039. 3
485584152040. 4

Question Number : 295 Question Id : 48558438010 Question Type : MCQ Option Shuffling : No Is Question Mandatory : No Calculator : None Response Time : N.A Think Time : N.A Minimum Instruction Time : 0

Correct Marks : 5 Wrong Marks : 1

Question Key Details :

Key	Value
Comprehension	Comp1

नीचे दिए गए गद्यांश को पढ़िए एवं प्रश्न का सावधानीपूर्वक उत्तर दीजिए।

एफ. इंडिया लिमिटेड महिला तस्त्र बुटीक की एक श्रृंखला है जहाँ पर अधिकांश काम हस्त निर्मित आधार पर किया जाता है। मिस्टर N फर्म की संवृद्धि (विकास) उत्तरजीविता और कल्याण के लिए उत्तरदायी है। वह समग्र संगठनात्मक लक्ष्यों को बनाता है और उनकी प्राप्ति के लिए कार्यनीतियों को बनाता है। भारत में आयातित ब्रांडों के प्रवेश के कारण कंपनी को फिनिशिंग और कढ़ाई (एम्ब्रायडरी) कार्यों संबंधी दोनों मोर्चों पर प्रतिस्पर्धा में कठिनाई का सामना कर पड़ रहा है। कंपनी के उत्पादन प्रबंधक मिस्टर जी महसूस करते हैं कि बिना आधुनिक मशीनों के उनकी कंपनी को लंबे समय तक बनाये रखा संभव नहीं होगा। कंपनी ने विदेश से नयी उच्च तकनीक वाली मशीन को खरीदा।

उत्पादन प्रक्रिया के दौरान, प्रबंधक ने पाया कि उत्पादन की गुणवत्ता मानक के अनुसार नहीं है और प्रायः मशीनरी के खराब हो जाने से उत्पादन बाधित हो जाता है। कर्मचारी उत्पाद के लगातार नकारे जाने से हतोत्साहित हो रहे हैं और नयी प्रौद्योगिकी के प्रति अपना प्रतिरोध व्यक्त करना प्रारंभ कर दिया है। कर्मचारियों की कुशलता में वृद्धि हेतु कंपनी ने निर्णय लिया है कि वे अपने कर्मचारियों को उनके कार्य में विशेषज्ञों के दिशा-निर्देशन में प्रशिक्षण प्रदान करेगी। वे कर्मचारी जो कौशल को प्राप्त कर लिए हैं, उनकी पदोन्नति कर दी गयी है और अच्छी तरह से नहीं प्रशिक्षित हो पाए कर्मचारियों का उन्हें इंचार्ज (प्रभारी) बनाया गया है। इस निर्णय ने सकारात्मक प्रभाव उत्पन्न किया है और प्रत्येक व्यक्ति सीखने के लिए उत्सुक हैं। कर्मचारियों से लिए जाने वाले सुझाव मूल्यवान हैं और कर्मचारियों को स्वतंत्र ढंग से संप्रेषण के लिए प्रोत्साहित किया गया है।

वे कर्मचारी जो कौशल प्राप्त कर लिए हैं, उनकी पदोन्नति कर दी गयी है और कर्मचारियों के विभिन्न समूहों का उन्हें प्रभारी बनाया गया है। किस स्तर से किस स्तर तक होने वाली पदोन्नति का उल्लेख किया गया है।

1. मध्य से शीर्ष (उच्च) स्तर के प्रबंधन
2. पर्यवेक्षी से मध्य स्तरीय प्रबंधन
3. क्रियात्मक से परिचलनात्मक प्रबंधन
4. परिचलनात्मक से पर्यवेक्षी प्रबंधन

Options :

485584152037. 1
485584152038. 2
485584152039. 3
485584152040. 4

Sub-Section Number :	3
Sub-Section Id :	4855842911
Question Shuffling Allowed :	No
Is Section Default? :	null

Question Number : 296 Question Id : 48558438011 Question Type : MCQ Option Shuffling : No Is Question Mandatory : No Calculator : None
Response Time : N.A Think Time : N.A Minimum Instruction Time : 0

Correct Marks : 5 Wrong Marks : 1

Question Key Details :

Key	Value
Comprehension	Comp2

Read the case given below and attempt the question carefully.

A well known school in Bangalore is facing the problem of attracting and retaining competent and experienced subject teachers. They asked their existing staff to suggest names of deserving and experienced people who could be contacted and called for interviews. In the first week itself, their HR manager Rekha, takes an orientation to familiarise the new employees with the school policies.

The promotion policy in the school is not very clear. The teachers within the school are not given proper dues and acknowledgement. Advertisements are placed in the newspapers for hiring teachers for new vacancies.

The management of the school keeps sending its teachers to attend training sessions, where the teachers learn the use of sophisticated gadgets & technology away from their actual work place. This leads to empowerment of teachers.

Recommendation of employees is an example of _____ recruitment

1. External source
2. Internal source
3. Casual source
4. Frequent source

Options :

485584152041. 1
485584152042. 2
485584152043. 3
485584152044. 4

Question Number : 296 Question Id : 48558438011 Question Type : MCQ Option Shuffling : No Is Question Mandatory : No Calculator : None Response Time : N.A Think Time : N.A Minimum Instruction Time : 0

Correct Marks : 5 Wrong Marks : 1

Question Key Details :

Key	Value
Comprehension	Comp2

नीचे दिए गए गद्यांश को पढ़िए एवं प्रश्न का सावधानीपूर्वक उत्तर दीजिए।

बंगलौर स्थित एक प्रसिद्ध विद्यालय (स्कूल) सक्षम एवं अनुभवी विषय-अध्यापकों को लाने एवं उन्हें कार्यरत बनाये रखने की समस्या का सामना कर रहा है। उसने अपने वर्तमान कार्यरत कर्मचारियों/अध्यापकों से ऐसे योग्य एवं अनुभवी लोगों के नामों को बताने के लिए कहा जिन्हें संपर्क किया जा सके और साक्षात्कार के लिए बुलाया जा सके। प्रथम सप्ताह में, उनकी एच.आर. प्रबंधक रेखा ने विद्यालय नीतियों से नए कर्मचारियों को अवगत कराने हेतु एक परिचय कार्यक्रम का निष्पादन किया।

विद्यालय की पदोन्नति नीति में स्पष्टता की बहुत कमी थी। विद्यालय के अध्यापकों को उनके वेतन एवं महत्व नहीं दिए गए हैं। नयी भर्तियों के लिए अध्यापकों को नियुक्त करने हेतु समाचार पत्रों में विज्ञापन दिए गए हैं।

विद्यालय-प्रबंधन द्वारा अपने अध्यापकों को प्रशिक्षण सत्रों में भाग लेने हेतु भेजा जाता है, जहाँ पर अध्यापक अपने वास्तविक कार्यस्थल से दूर शिष्ट गैजेट (उपकरण) और प्रौद्योगिकी का करना सीखते हैं। इससे अध्यापक-संराक्षितकरण होता है।

कर्मचारियों की संस्तुति (अनुशासना) _____ भर्ती का एक उदाहरण है

1. बाह्य स्रोत
2. आन्तरिक स्रोत
3. नैमित्तिक स्रोत
4. पुनरावर्तक स्रोत

Options :

485584152041. 1
485584152042. 2
485584152043. 3
485584152044. 4

Question Number : 297 Question Id : 48558438012 Question Type : MCQ Option Shuffling : No Is Question Mandatory : No Calculator : None Response Time : N.A Think Time : N.A Minimum Instruction Time : 0

Correct Marks : 5 Wrong Marks : 1

Question Key Details :

Key	Value
Comprehension	Comp2

Read the case given below and attempt the question carefully.

A well known school in Bangalore is facing the problem of attracting and retaining competent and experienced subject teachers. They asked their existing staff to suggest names of deserving and experienced people who could be contacted and called for interviews. In the first week itself, their HR manager Rekha, takes an orientation to familiarise the new employees with the school policies.

The promotion policy in the school is not very clear. The teachers within the school are not given proper dues and acknowledgement. Advertisements are placed in the newspapers for hiring teachers for new vacancies.

The management of the school keeps sending its teachers to attend training sessions, where the teachers learn the use of sophisticated gadgets & technology away from their actual work place. This leads to empowerment of teachers.

Identify the limitation of external source of recruitment.

1. Qualified personnel
2. Wider choice
3. Costly process
4. Fresh talent

Options :

485584152045. 1
485584152046. 2
485584152047. 3
485584152048. 4

Question Number : 297 Question Id : 48558438012 Question Type : MCQ Option Shuffling : No Is Question Mandatory : No Calculator : None Response Time : N.A Think Time : N.A Minimum Instruction Time : 0

Correct Marks : 5 Wrong Marks : 1

Question Key Details :

Key	Value
Comprehension	Comp2

नीचे दिए गए गद्यांश को पढ़िए एवं प्रश्न का सावधानीपूर्वक उत्तर दीजिए।

बंगलौर स्थित एक प्रसिद्ध विद्यालय (स्कूल) सक्षम एवं अनुभवी विषय-अध्यापकों को लाने एवं उन्हें कार्यरत बनाये रखने की समस्या का सामना कर रहा है। उसने अपने वर्तमान कार्यरत कर्मचारियों/अध्यापकों से ऐसे योग्य एवं अनुभवी लोगों के नामों को बताने के लिए कहा जिन्हें संपर्क किया जा सके और साक्षात्कार के लिए बुलाया जा सके। प्रथम सप्ताह में, उनकी एच.आर. प्रबंधक रेखा ने विद्यालय नीतियों से नए कर्मचारियों को अवगत कराने हेतु एक परिचय कार्यक्रम का निष्पादन किया।

विद्यालय की पदोन्नति नीति में स्पष्टता की बहुत कमी थी। विद्यालय के अध्यापकों को उनके वेतन एवं महत्व नहीं दिए गए हैं। नयी भर्तियों के लिए अध्यापकों को नियुक्त करने हेतु समाचार पत्रों में विज्ञापन दिए गए हैं।

विद्यालय-प्रबंधन द्वारा अपने अध्यापकों को प्रशिक्षण सत्रों में भाग लेने हेतु भेजा जाता है, जहाँ पर अध्यापक अपने वास्तविक कार्यस्थल से दूर शिष्ट गैजेट (उपकरण) और प्रौद्योगिकी का करना सीखते हैं। इससे अध्यापक-सशक्तिकरण होता है।

भर्ती के बाह्य स्रोत की सीमा पहचानिए

1. योग्य (अर्ह) कार्मिक
2. व्यापक पसंद
3. महँगी प्रक्रिया
4. नवीन प्रतिभा

Options :

485584152045. 1
485584152046. 2
485584152047. 3
485584152048. 4

Question Number : 298 Question Id : 48558438013 Question Type : MCQ Option Shuffling : No Is Question Mandatory : No Calculator : None Response Time : N.A Think Time : N.A Minimum Instruction Time : 0

Correct Marks : 5 Wrong Marks : 1

Question Key Details :

Key	Value
Comprehension	Comp2

Read the case given below and attempt the question carefully.

A well known school in Bangalore is facing the problem of attracting and retaining competent and experienced subject teachers. They asked their existing staff to suggest names of deserving and experienced people who could be contacted and called for interviews. In the first week itself, their HR manager Rekha, takes an orientation to familiarise the new employees with the school policies.

The promotion policy in the school is not very clear. The teachers within the school are not given proper dues and acknowledgement. Advertisements are placed in the newspapers for hiring teachers for new vacancies.

The management of the school keeps sending its teachers to attend training sessions, where the teachers learn the use of sophisticated gadgets & technology away from their actual work place. This leads to empowerment of teachers.

Business enterprises generally follow the practice of promotion because it:

1. Leads to shifting an employee without much change in his responsibilities
2. Improves the motivation, loyalty and satisfaction level of employees
3. Is a horizontal shifting of employees
4. May lead to chain of lay off at lower levels in the organisation

Options :

485584152049. 1
485584152050. 2
485584152051. 3
485584152052. 4

Question Number : 298 Question Id : 48558438013 Question Type : MCQ Option Shuffling : No Is Question Mandatory : No Calculator : None Response Time : N.A Think Time : N.A Minimum Instruction Time : 0

Correct Marks : 5 Wrong Marks : 1

Question Key Details :

Key	Value
Comprehension	Comp2

नीचे दिए गए गद्यांश को पढ़िए एवं प्रश्न का सावधानीपूर्वक उत्तर दीजिए।

बंगलौर स्थित एक प्रसिद्ध विद्यालय (स्कूल) सक्षम एवं अनुभवी विषय-अध्यापकों को लाने एवं उन्हें कार्यरत बनाये रखने की समस्या का सामना कर रहा है। उसने अपने वर्तमान कार्यरत कर्मचारियों/अध्यापकों से ऐसे योग्य एवं अनुभवी लोगों के नामों को बताने के लिए कहा जिन्हें संपर्क किया जा सके और साक्षात्कार के लिए बुलाया जा सके। प्रथम सप्ताह में, उनकी एच.आर. प्रबंधक रेखा ने विद्यालय नीतियों से नए कर्मचारियों को अवगत कराने हेतु एक परिचय कार्यक्रम का निष्पादन किया।

विद्यालय की पदोन्नति नीति में स्पष्टता की बहुत कमी थी। विद्यालय के अध्यापकों को उनके वेतन एवं महत्व नहीं दिए गए हैं। नयी भर्तियों के लिए अध्यापकों को नियुक्त करने हेतु समाचार पत्रों में विज्ञापन दिए गए हैं।

विद्यालय-प्रबंधन द्वारा अपने अध्यापकों को प्रशिक्षण सत्रों में भाग लेने हेतु भेजा जाता है, जहाँ पर अध्यापक अपने वास्तविक कार्यस्थल से दूर शिफ्ट गैजेट (उपकरण) और प्रौद्योगिकी का करना सीखते हैं। इससे अध्यापक-सराक्तिकरण होता है।

व्यापारिक उद्योग सामान्यतः पदोन्नति की पद्धति का अनुसरण करते हैं क्योंकि

1. कर्मचारियों को उनके उत्तरदायित्वों में बहुत अधिक बदलाव किए बिना परिवर्तन की ओर प्रेरित करता है।
2. कर्मचारियों के अभिप्रेरण, सत्वनिष्ठा एवं संतुष्टि स्तर में सुधार लाता है।
3. कर्मचारियों में श्रेतिज (समस्तरीय) परिवर्तन है।
4. संगठन में निम्न स्तरों पर कामबन्दी करने की श्रृंखला की ओर ले जा सकता है।

Options :

485584152049. 1
485584152050. 2
485584152051. 3
485584152052. 4

Question Number : 299 Question Id : 48558438014 Question Type : MCQ Option Shuffling : No Is Question Mandatory : No Calculator : None Response Time : N.A Think Time : N.A Minimum Instruction Time : 0

Correct Marks : 5 Wrong Marks : 1

Question Key Details :

Key	Value
-----	-------

Read the case given below and attempt the question carefully.

A well known school in Bangalore is facing the problem of attracting and retaining competent and experienced subject teachers. They asked their existing staff to suggest names of deserving and experienced people who could be contacted and called for interviews. In the first week itself, their HR manager Rekha, takes an orientation to familiarise the new employees with the school policies.

The promotion policy in the school is not very clear. The teachers within the school are not given proper dues and acknowledgement. Advertisements are placed in the newspapers for hiring teachers for new vacancies.

The management of the school keeps sending its teachers to attend training sessions, where the teachers learn the use of sophisticated gadgets & technology away from their actual work place. This leads to empowerment of teachers.

The management of the school sends its teachers to _____ method of training

1. Apprenticeship
2. Vestibule
3. Case study
4. Coaching

Options :

485584152053. 1
485584152054. 2
485584152055. 3
485584152056. 4

Question Number : 299 Question Id : 48558438014 Question Type : MCQ Option Shuffling : No Is Question Mandatory : No Calculator : None Response Time : N.A Think Time : N.A Minimum Instruction Time : 0

Correct Marks : 5 Wrong Marks : 1

Question Key Details :

Key	Value
Comprehension	Comp2

नीचे दिए गए गद्यांश को पढ़िए एवं प्रश्न का सावधानीपूर्वक उत्तर दीजिए।

बंगलूर स्थित एक प्रसिद्ध विद्यालय (स्कूल) सक्षम एवं अनुभवी विषय-अध्यापकों को लाने एवं उन्हें कार्यरत बनाये रखने की समस्या का सामना कर रहा है। उसने अपने वर्तमान कार्यरत कर्मचारियों/अध्यापकों से ऐसे योग्य एवं अनुभवी लोगों के नामों को बताने के लिए कहा जिन्हें संपर्क किया जा सके और साक्षात्कार के लिए बुलाया जा सके। प्रथम सप्ताह में, उनकी एच.आर. प्रबंधक रेखा ने विद्यालय नीतियों से नए कर्मचारियों को अवगत कराने हेतु एक परिचय कार्यक्रम का निष्पादन किया।

विद्यालय की पदोन्नति नीति में स्पष्टता की बहुत कमी थी। विद्यालय के अध्यापकों को उनके वेतन एवं महत्व नहीं दिए गए हैं। नयी भर्तियों के लिए अध्यापकों को नियुक्त करने हेतु समाचार पत्रों में विज्ञापन दिए गए हैं।

विद्यालय-प्रबंधन द्वारा अपने अध्यापकों को प्रशिक्षण सत्रों में भाग लेने हेतु भेजा जाता है, जहाँ पर अध्यापक अपने वास्तविक कार्यस्थल से दूर शिष्ट गैजेट (उपकरण) और प्रौद्योगिकी का करना सीखते हैं। इससे अध्यापक-सशक्तिकरण होता है।

विद्यालय- प्रबंधन अपने अध्यापकों को प्रशिक्षण की _____ विधि प्राप्त करने हेतु भेजता है।

1. नवशिक्षण
2. प्रकोष्ठ
3. केस (प्रकरण) अध्ययन
4. अनुशिक्षण

Options :

485584152053. 1
485584152054. 2
485584152055. 3
485584152056. 4

Question Number : 300 Question Id : 48558438015 Question Type : MCQ Option Shuffling : No Is Question Mandatory : No Calculator : None Response Time : N.A Think Time : N.A Minimum Instruction Time : 0

Correct Marks : 5 Wrong Marks : 1

Question Key Details :

Key	Value
Comprehension	Comp2

Read the case given below and attempt the question carefully.

A well known school in Bangalore is facing the problem of attracting and retaining competent and experienced subject teachers. They asked their existing staff to suggest names of deserving and experienced people who could be contacted and called for interviews. In the first week itself, their HR manager Rekha, takes an orientation to familiarise the new employees with the school policies.

The promotion policy in the school is not very clear. The teachers within the school are not given proper dues and acknowledgement. Advertisements are placed in the newspapers for hiring teachers for new vacancies.

The management of the school keeps sending its teachers to attend training sessions, where the teachers learn the use of sophisticated gadgets & technology away from their actual work place. This leads to empowerment of teachers.

Identify the function that the school is not able to perform efficiently due to which it is not able to attract and retain competent and experienced subject teachers.

1. Planning
2. Directing
3. Staffing
4. Controlling

Options :

485584152057. 1
485584152058. 2
485584152059. 3
485584152060. 4

Question Number : 300 Question Id : 48558438015 Question Type : MCQ Option Shuffling : No Is Question Mandatory : No Calculator : None Response Time : N.A Think Time : N.A Minimum Instruction Time : 0

Correct Marks : 5 Wrong Marks : 1

Question Key Details :

Key	Value
Comprehension	Comp2

नीचे दिए गए गद्यांश को पढ़िए एवं प्रश्न का सावधानीपूर्वक उत्तर दीजिए।

बंगलौर स्थित एक प्रसिद्ध विद्यालय (स्कूल) सक्षम एवं अनुभवी विषय-अध्यापकों को लाने एवं उन्हें कार्यरत बनाये रखने की समस्या का सामना कर रहा है। उसने अपने वर्तमान कार्यरत कर्मचारियों/अध्यापकों से ऐसे योग्य एवं अनुभवी लोगों के नामों को बताने के लिए कहा जिन्हें संपर्क किया जा सके और साक्षात्कार के लिए बुलाया जा सके। प्रथम सप्ताह में, उनकी एच.आर. प्रबंधक रेखा ने विद्यालय नीतियों से नए कर्मचारियों को अवगत कराने हेतु एक परिचय कार्यक्रम का निष्पादन किया।

विद्यालय की पदोन्नति नीति में स्पष्टता की बहुत कमी थी। विद्यालय के अध्यापकों को उनके वेतन एवं महत्व नहीं दिए गए हैं। नयी भर्तियों के लिए अध्यापकों को नियुक्त करने हेतु समाचार पत्रों में विज्ञापन दिए गए हैं।

विद्यालय-प्रबंधन द्वारा अपने अध्यापकों को प्रशिक्षण सत्रों में भाग लेने हेतु भेजा जाता है, जहाँ पर अध्यापक अपने वास्तविक कार्यस्थल से दूर शिष्ट गैजेट (उपकरण) और प्रौद्योगिकी का करना सीखते हैं। इससे अध्यापक-सशक्तिकरण होता है।

उस कार्य को पहचानिए जिसे विद्यालय कुशलता पूर्वक कर पाने में सक्षम नहीं है जिसके कारण यह सक्षम एवं अनुभवी विषय-अध्यापकों को लाने एवं धारित (बनाये रखने) में समर्थ नहीं है ?

1. नियोजन
2. निर्देशन
3. नियुक्तिकरण
4. नियंत्रण

Options :

485584152057. 1
485584152058. 2
485584152059. 3
485584152060. 4

Chemistry

Group Number :	8
Group Id :	485584889
Group Maximum Duration :	60
Group Minimum Duration :	60
Show Attended Group? :	No
Edit Attended Group? :	No
Break time :	0
Group Marks :	200
Is this Group for Examiner? :	No
Examiner permission :	Cant View
Show Progress Bar? :	No

Chemistry

Section Id :	4855841029
Section Number :	1
Section type :	Online
Mandatory or Optional :	Mandatory
Number of Questions :	50
Number of Questions to be attempted :	40
Section Marks :	200
Enable Mark as Answered Mark for Review and Clear Response :	Yes
Maximum Instruction Time :	0
Sub-Section Number :	1

Sub-Section Id : 4855842912
Question Shuffling Allowed : Yes
Is Section Default? : null

Question Number : 301 Question Id : 48558439416 Question Type : MCQ Option Shuffling : No Is Question Mandatory : No Calculator : None
Response Time : N.A Think Time : N.A Minimum Instruction Time : 0

Correct Marks : 5 Wrong Marks : 1

Question Key Details :

Key	Value
Comprehension	MCQ

For a reaction taking place in four different steps, the rate constants follow a relationship $K = \frac{K_2 K_4}{K_1 K_3}$. If the energies of activation E_1 , E_2 , E_3 and E_4 are 10 kJ/mol, 30 kJ/mol, 40 kJ/mol and 20 kJ/mol respectively, then the overall energy of activation would be:

1. Zero kJ/mol
2. 100 kJ/mol
3. 10 kJ/mol
4. 1000 kJ/mol

Options :

485584157661. 1
485584157662. 2
485584157663. 3
485584157664. 4

Question Number : 301 Question Id : 48558439416 Question Type : MCQ Option Shuffling : No Is Question Mandatory : No Calculator : None
Response Time : N.A Think Time : N.A Minimum Instruction Time : 0

Correct Marks : 5 Wrong Marks : 1

Question Key Details :

Key	Value
Comprehension	MCQ

चार अलग-अलग पदों में होने वाली अभिक्रिया के लिए स्थिरांक का संबंध है $K = \frac{K_2 K_4}{K_1 K_3}$ । यदि इनकी सक्रिय ऊर्जाएं E_1 , E_2 , E_3 और E_4 10 किलो जूल/मोल, 30 किलो जूल/मोल, 40 किलो जूल/मोल और 20 किलो जूल/मोल क्रमशः हैं, तो कुल सक्रिय ऊर्जा होगी:

1. शून्य किलो जूल/मोल
2. 100 किलो जूल/मोल
3. 10 किलो जूल/मोल
4. 1000 किलो जूल/मोल

Options :

485584157661. 1
485584157662. 2
485584157663. 3
485584157664. 4

Question Number : 302 Question Id : 48558439417 Question Type : MCQ Option Shuffling : No Is Question Mandatory : No Calculator : None
Response Time : N.A Think Time : N.A Minimum Instruction Time : 0

Correct Marks : 5 Wrong Marks : 1

Question Key Details :

Key	Value
Comprehension	MCQ

Zinc oxide is white in colour at room temperature. It appears yellow on heating because of:

1. Frenkel defect
2. Schottky defect
3. Metal excess defect
4. Metal deficiency defect

Options :

- 485584157665. 1
- 485584157666. 2
- 485584157667. 3
- 485584157668. 4

Question Number : 302 Question Id : 48558439417 Question Type : MCQ Option Shuffling : No Is Question Mandatory : No Calculator : None Response Time : N.A Think Time : N.A Minimum Instruction Time : 0

Correct Marks : 5 Wrong Marks : 1

Question Key Details :

Key	Value
Comprehension	MCQ

सामान्य ताप पर जिंक ऑक्साइड सफेद रंग का होता है। यह गर्म करने पर पीला प्रतीत होता है क्योंकि:

1. फ्रेन्कल दोष
2. शॉटकी दोष
3. धातु अधिकता दोष
4. धातु न्यूनता दोष

Options :

- 485584157665. 1
- 485584157666. 2
- 485584157667. 3
- 485584157668. 4

Question Number : 303 Question Id : 48558439418 Question Type : MCQ Option Shuffling : No Is Question Mandatory : No Calculator : None Response Time : N.A Think Time : N.A Minimum Instruction Time : 0

Correct Marks : 5 Wrong Marks : 1

Question Key Details :

Key	Value
Comprehension	MCQ

The partial pressure of the gas in vapour phase (P) is proportional to the mole fraction of the gas (x) in the solution. It is expressed as $P = K_H x$.

K_H stands for-

1. Arrhenius constant
2. Gas constant
3. Cryoscopic constant
4. Henry's law constant

Options :

- 485584157669. 1
- 485584157670. 2

485584157671. 3
485584157672. 4

Question Number : 303 Question Id : 48558439418 Question Type : MCQ Option Shuffling : No Is Question Mandatory : No Calculator : None
Response Time : N.A Think Time : N.A Minimum Instruction Time : 0
Correct Marks : 5 Wrong Marks : 1

Question Key Details :

Key	Value
Comprehension	MCQ

वाष्प अवस्था (P) में गैस का आंशिक दबाव, विलयन में गैस (x) के मोल अंश के समानुपाती है। इसे प्रदर्शित करते हैं $P = K_H x$.

K_H का अर्थ-

1. आरहीनिअस स्थिरांक
2. गैस स्थिरांक
3. प्रयोगोस्कोपिक स्थिरांक
4. हेनरी नियम स्थिरांक

Options :

485584157669. 1
485584157670. 2
485584157671. 3
485584157672. 4

Question Number : 304 Question Id : 48558439419 Question Type : MCQ Option Shuffling : No Is Question Mandatory : No Calculator : None
Response Time : N.A Think Time : N.A Minimum Instruction Time : 0
Correct Marks : 5 Wrong Marks : 1

Question Key Details :

Key	Value
Comprehension	MCQ

2g of benzoic acid (C_6H_5COOH) dissolved in 25 g of benzene lowers its freezing point by 1.62 K. Molal depression constant is 4.9 K kg/mol. The value of 'i' when benzoic acid dimerises would be:

1. 0.753
2. 0.617
3. 0.504
4. 0.405

Options :

485584157673. 1
485584157674. 2
485584157675. 3
485584157676. 4

Question Number : 304 Question Id : 48558439419 Question Type : MCQ Option Shuffling : No Is Question Mandatory : No Calculator : None
Response Time : N.A Think Time : N.A Minimum Instruction Time : 0
Correct Marks : 5 Wrong Marks : 1

Question Key Details :

Key	Value
Comprehension	MCQ

2g बैजोइक अम्ल(C_6H_5COOH)को 25 g बैजोन में घोलने पर उसका हिमांक 1.62 K घट जाता है। मोलल अवनमन स्थिरांक 4.9 K kg मोल है। T का मान बैजोइक अम्ल के द्वितयन पर होगा:

1. 0.753
2. 0.617
3. 0.504
4. 0.405

Options :

485584157673. 1
485584157674. 2
485584157675. 3
485584157676. 4

Question Number : 305 Question Id : 48558439420 Question Type : MCQ Option Shuffling : No Is Question Mandatory : No Calculator : None Response Time : N.A Think Time : N.A Minimum Instruction Time : 0

Correct Marks : 5 Wrong Marks : 1

Question Key Details :

Key	Value
Comprehension	MCQ

Arrange the following solids in the decreasing order of their magnetic strength in the presence of external magnetic field.

- A. NaCl
- B. CrO_2
- C. MnO
- D. Fe_3O_4

1. $B > C > A > D$
2. $D > B > A > C$
3. $B > D > C > A$
4. $A > B > C > D$

Options :

485584157677. 1
485584157678. 2
485584157679. 3
485584157680. 4

Question Number : 305 Question Id : 48558439420 Question Type : MCQ Option Shuffling : No Is Question Mandatory : No Calculator : None Response Time : N.A Think Time : N.A Minimum Instruction Time : 0

Correct Marks : 5 Wrong Marks : 1

Question Key Details :

Key	Value
Comprehension	MCQ

निम्नलिखित ठोस को अवरोही क्रम में चुम्बकीय प्रबलता के क्रम में, बाह्य चुम्बकीय क्षेत्र की उपस्थिति में व्यवस्थित करें।

- A. NaCl
- B. CrO_2
- C. MnO
- D. Fe_3O_4

1. $B > C > A > D$

2. $D > B > A > C$

3. $B > D > C > A$

4. $A > B > C > D$

Options :

485584157677. 1

485584157678. 2

485584157679. 3

485584157680. 4

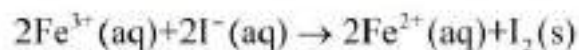
Question Number : 306 Question Id : 48558439421 Question Type : MCQ Option Shuffling : No Is Question Mandatory : No Calculator : None Response Time : N.A Think Time : N.A Minimum Instruction Time : 0

Correct Marks : 5 Wrong Marks : 1

Question Key Details :

Key	Value
Comprehension	MCQ

Number of electrons exchanged during the following reaction are/is



1. 1

2. 2

3. 3

4. 4

Options :

485584157681. 1

485584157682. 2

485584157683. 3

485584157684. 4

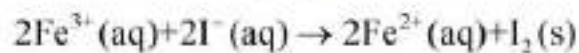
Question Number : 306 Question Id : 48558439421 Question Type : MCQ Option Shuffling : No Is Question Mandatory : No Calculator : None Response Time : N.A Think Time : N.A Minimum Instruction Time : 0

Correct Marks : 5 Wrong Marks : 1

Question Key Details :

Key	Value
Comprehension	MCQ

निम्नलिखित अभिक्रिया में इलेक्ट्रॉन विनिमय की संख्या है।



1. 1
2. 2
3. 3
4. 4

Options :

485584157681. 1
485584157682. 2
485584157683. 3
485584157684. 4

Question Number : 307 Question Id : 48558439422 Question Type : MCQ Option Shuffling : No Is Question Mandatory : No Calculator : None Response Time : N.A Think Time : N.A Minimum Instruction Time : 0

Correct Marks : 5 Wrong Marks : 1

Question Key Details :

Key	Value
Comprehension	MCQ

The reactions taking place during electrolysis of aqueous solution of CuCl_2 with platinum electrodes are:

- A. $\text{Cu}^{2+}(\text{aq}) + 2\text{e}^{-} \rightarrow \text{Cu}(\text{s})$
- B. $\text{H}^{+}(\text{aq}) + \text{e}^{-} \rightarrow \frac{1}{2}\text{H}_2(\text{g})$
- C. $\text{H}_2\text{O}(\text{l}) + \text{e}^{-} \rightarrow \frac{1}{2}\text{H}_2(\text{g}) + \text{OH}^{-}(\text{aq})$
- D. $\text{Cl}^{-}(\text{aq}) \rightarrow \frac{1}{2}\text{Cl}_2(\text{g}) + \text{e}^{-}$
- E. $2\text{OH}^{-}(\text{aq}) \rightarrow \text{H}_2\text{O}(\text{l}) + \frac{1}{2}\text{O}_2(\text{g}) + 2\text{e}^{-}$

Choose the correct answer from the options given below:

1. A and E only
2. A and D only
3. A and B only
4. A and C only

Options :

485584157685. 1
485584157686. 2
485584157687. 3
485584157688. 4

Question Number : 307 Question Id : 48558439422 Question Type : MCQ Option Shuffling : No Is Question Mandatory : No Calculator : None Response Time : N.A Think Time : N.A Minimum Instruction Time : 0

Correct Marks : 5 Wrong Marks : 1

Question Key Details :

Key	Value
Comprehension	MCQ

प्लेटिनम इलेक्ट्रोड के साथ CuCl_2 के जलीय विलयन के वैद्युत अपघटन पर अभिक्रियाएं हैं:

- A. $\text{Cu}^{2+}(\text{aq}) + 2\text{e}^- \rightarrow \text{Cu}(\text{s})$
B. $\text{H}^+(\text{aq}) + \text{e}^- \rightarrow \frac{1}{2}\text{H}_2(\text{g})$
C. $\text{H}_2\text{O}(\text{l}) + \text{e}^- \rightarrow \frac{1}{2}\text{H}_2(\text{g}) + \text{OH}^-(\text{aq})$
D. $\text{Cl}^-(\text{aq}) \rightarrow \frac{1}{2}\text{Cl}_2(\text{g}) + \text{e}^-$
E. $2\text{OH}^-(\text{aq}) \rightarrow \text{H}_2\text{O}(\text{l}) + \frac{1}{2}\text{O}_2(\text{g}) + 2\text{e}^-$

नीचे दिए गए विकल्पों में से सही उत्तर का चयन कीजिए:

- केवल A और E
- केवल A और D
- केवल A और B
- केवल A और C

Options :

485584157685. 1
485584157686. 2
485584157687. 3
485584157688. 4

Question Number : 308 Question Id : 48558439423 Question Type : MCQ Option Shuffling : No Is Question Mandatory : No Calculator : None Response Time : N.A Think Time : N.A Minimum Instruction Time : 0

Correct Marks : 5 Wrong Marks : 1

Question Key Details :

Key	Value
Comprehension	MCQ

Rate of a reaction is of 2nd order w.r.t. A and 1st order w.r.t. B. If concentration of A is halved and concentration of B becomes 1/3rd of initial concentration. The rate of reaction becomes:

- 12 times
- 1/12 times
- 6 times
- 1/6 times

Options :

485584157689. 1
485584157690. 2
485584157691. 3
485584157692. 4

Question Number : 308 Question Id : 48558439423 Question Type : MCQ Option Shuffling : No Is Question Mandatory : No Calculator : None Response Time : N.A Think Time : N.A Minimum Instruction Time : 0

Correct Marks : 5 Wrong Marks : 1

Question Key Details :

Key	Value
Comprehension	MCQ

A के सापेक्ष अभिक्रिया की गति द्वितीय कोटि की, B के सापेक्ष प्रथम कोटि की है। यदि A की सान्द्रता आधी कर दे तो B की सान्द्रता, प्रारंभिक सान्द्रता से 1/3 रह जाती है। अभिक्रिया की गति हो जायेगी:

1. 12 गुना
2. 1/12 गुना
3. 6 गुना
4. 1/6 गुना

Options :

485584157689. 1
485584157690. 2
485584157691. 3
485584157692. 4

Question Number : 309 Question Id : 48558439424 Question Type : MCQ Option Shuffling : No Is Question Mandatory : No Calculator : None Response Time : N.A Think Time : N.A Minimum Instruction Time : 0

Correct Marks : 5 Wrong Marks : 1

Question Key Details :

Key	Value
Comprehension	MCQ

When phenol is treated with chloroform in the presence of Sodium hydroxide, product formed will be:

1. Salicylic acid
2. Salicylate ion
3. Salicylaldehyde
4. benzoquinone

Options :

485584157693. 1
485584157694. 2
485584157695. 3
485584157696. 4

Question Number : 309 Question Id : 48558439424 Question Type : MCQ Option Shuffling : No Is Question Mandatory : No Calculator : None Response Time : N.A Think Time : N.A Minimum Instruction Time : 0

Correct Marks : 5 Wrong Marks : 1

Question Key Details :

Key	Value
Comprehension	MCQ

फेनोल को सडियम हाइड्रोक्साइड की उपस्थिति में क्लोरोफोर्म के साथ अभिक्रिया करने पर उत्पाद बनेगा:

1. सेलिसाइलिक अम्ल
2. सेलिसाइलेट आयन
3. सेलिसाइलडिहाइड
4. बेन्जोक्विनोन

Options :

485584157693. 1
485584157694. 2
485584157695. 3

Question Number : 310 Question Id : 48558439425 Question Type : MCQ Option Shuffling : No Is Question Mandatory : No Calculator : None
Response Time : N.A Think Time : N.A Minimum Instruction Time : 0

Correct Marks : 5 Wrong Marks : 1

Question Key Details :

Key	Value
Comprehension	MCQ

When air was passed through glass bulb containing 16 g of an organic compound in 100 g of water and then through glass bulb containing only water at the same temperature and then finally through anhydrous CCl_4 glass tube, the loss in mass of glass bulb containing water was 0.052 g and the gain in mass of CCl_4 tube was 1.86 g. Calculate the molecular mass of the organic substance.

1. 100 g
2. 10 g
3. 200 g
4. 50 g

Options :

485584157697. 1
485584157698. 2
485584157699. 3
485584157700. 4

Question Number : 310 Question Id : 48558439425 Question Type : MCQ Option Shuffling : No Is Question Mandatory : No Calculator : None
Response Time : N.A Think Time : N.A Minimum Instruction Time : 0

Correct Marks : 5 Wrong Marks : 1

Question Key Details :

Key	Value
Comprehension	MCQ

जब वायु को कांच के बल से प्रवाहित किया जाता है जिसमें 16 ग्राम कार्बनिक यौगिक को 100 ग्राम जल में घोला गया है अंत में शुष्क CCl_4 की कांच की नली में प्रवाहित किया जाता है, तो कांच की नली के भार में कमी आती है, जिसमें 0.052 ग्राम जल मिलाया गया है और CCl_4 के भार की कांच की नली में मात्रा 1.86 ग्राम है, कार्बनिक पदार्थ का आणविक भार ज्ञात कीजिए।

1. 100 ग्राम
2. 10 ग्राम
3. 200 ग्राम
4. 50 ग्राम

Options :

485584157697. 1
485584157698. 2
485584157699. 3
485584157700. 4

Question Number : 311 Question Id : 48558439426 Question Type : MCQ Option Shuffling : No Is Question Mandatory : No Calculator : None
Response Time : N.A Think Time : N.A Minimum Instruction Time : 0

Correct Marks : 5 Wrong Marks : 1

Question Key Details :

Key	Value
Comprehension	MCQ

When 1,3-Diphenylprop-2-en-1-one is formed by the reaction of benzaldehyde and acetophenone in the presence of dil. NaOH followed by heating, which is the correct option?

1. Acetophenone acts as Electrophile
2. Benzaldehyde acts as Nucleophile
3. Acetophenone acts as Nucleophile
4. Benzaldehyde has an α -hydrogen

Options :

485584157701. 1
485584157702. 2
485584157703. 3
485584157704. 4

Question Number : 311 Question Id : 48558439426 Question Type : MCQ Option Shuffling : No Is Question Mandatory : No Calculator : None Response Time : N.A Think Time : N.A Minimum Instruction Time : 0

Correct Marks : 5 Wrong Marks : 1

Question Key Details :

Key	Value
Comprehension	MCQ

बेंजल्डिहाइड को ऐसीटोफीनोन के साथ तनु NaOH की उपस्थिति में, गर्म करने पर अभिक्रिया द्वारा 1,3 डाईफिनिलप्रोप-2 ईन-1-ऑन बनता है, सही विकल्प चुनिए?

1. ऐसीटोफीनोन का इलेक्ट्रान रागी व्यवहार
2. बेंजल्डिहाइड का नाभिकरागी व्यवहार
3. ऐसीटोफीनोन का नाभिकरागी व्यवहार
4. बेंजल्डिहाइड का एल्फा-हाइड्रोजन रखना

Options :

485584157701. 1
485584157702. 2
485584157703. 3
485584157704. 4

Question Number : 312 Question Id : 48558439427 Question Type : MCQ Option Shuffling : No Is Question Mandatory : No Calculator : None Response Time : N.A Think Time : N.A Minimum Instruction Time : 0

Correct Marks : 5 Wrong Marks : 1

Question Key Details :

Key	Value
Comprehension	MCQ

Aldol condensation results due to-

1. Acidity of α -hydrogen in aldehydes and ketones
2. Acidity of α -hydrogen in carboxylic acids
3. Acidity of α -hydrogen in amines
4. Acidity of α -hydrogen in Haloalkanes

Options :

485584157705. 1
485584157706. 2
485584157707. 3

485584157708. 4

Question Number : 312 Question Id : 48558439427 Question Type : MCQ Option Shuffling : No Is Question Mandatory : No Calculator : None
Response Time : N.A Think Time : N.A Minimum Instruction Time : 0
Correct Marks : 5 Wrong Marks : 1
Question Key Details :

Key	Value
Comprehension	MCQ

एल्डोन संघनन परिणाम हे-

1. एल्डिहाइड तथा कीटोन में एल्फा-हाइड्रोजन की अम्लता
2. कार्बोक्सिक अम्लों में एल्फा-हाइड्रोजन की अम्लता
3. ऐमिन में एल्फा-हाइड्रोजन की अम्लता
4. हैलोएल्केन में एल्फा-हाइड्रोजन की अम्लता

Options :

485584157705. 1
485584157706. 2
485584157707. 3
485584157708. 4

Question Number : 313 Question Id : 48558439428 Question Type : MCQ Option Shuffling : No Is Question Mandatory : No Calculator : None
Response Time : N.A Think Time : N.A Minimum Instruction Time : 0
Correct Marks : 5 Wrong Marks : 1
Question Key Details :

Key	Value
Comprehension	MCQ

The chemical used for leaching of silver and gold is:

1. NaCN
2. NaCl
3. Na₂O
4. NaF

Options :

485584157709. 1
485584157710. 2
485584157711. 3
485584157712. 4

Question Number : 313 Question Id : 48558439428 Question Type : MCQ Option Shuffling : No Is Question Mandatory : No Calculator : None
Response Time : N.A Think Time : N.A Minimum Instruction Time : 0
Correct Marks : 5 Wrong Marks : 1
Question Key Details :

Key	Value
Comprehension	MCQ

रजत तथा स्वर्ण के निक्षापन में प्रयुक्त होने वाला रसायन:

1. NaCN
2. NaCl
3. Na₂O
4. NaF

Options :

485584157709. 1
485584157710. 2
485584157711. 3
485584157712. 4

Question Number : 314 Question Id : 48558439429 Question Type : MCQ Option Shuffling : No Is Question Mandatory : No Calculator : None Response Time : N.A Think Time : N.A Minimum Instruction Time : 0

Correct Marks : 5 Wrong Marks : 1

Question Key Details :

Key	Value
Comprehension	MCQ

Arrange the following oxoacids of phosphorus in the correct decreasing order of their reducing strength.

- A. H₄P₂O₆
- B. H₃PO₂
- C. H₄P₂O₇
- D. H₃PO₃

Choose the correct answer from the options given below:

1. B > D > A > C
2. B > A > C > D
3. D > C > A > B
4. D > B > C > A

Options :

485584157713. 1
485584157714. 2
485584157715. 3
485584157716. 4

Question Number : 314 Question Id : 48558439429 Question Type : MCQ Option Shuffling : No Is Question Mandatory : No Calculator : None Response Time : N.A Think Time : N.A Minimum Instruction Time : 0

Correct Marks : 5 Wrong Marks : 1

Question Key Details :

Key	Value
Comprehension	MCQ

निम्नलिखित फास्फोरस के ओक्सोअम्ल को, अपचयन शक्ति के सही अवरोही क्रम में व्यवस्थित करें।

- A. $H_4P_2O_6$
- B. H_3PO_2
- C. $H_4P_2O_7$
- D. H_3PO_3

नीचे दिए गए विकल्पों में से सही उत्तर का चयन कीजिए:

- 1. $B > D > A > C$
- 2. $B > A > C > D$
- 3. $D > C > A > B$
- 4. $D > B > C > A$

Options :

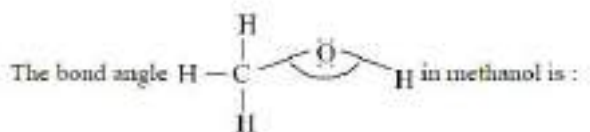
- 485584157713. 1
- 485584157714. 2
- 485584157715. 3
- 485584157716. 4

Question Number : 315 Question Id : 48558439430 Question Type : MCQ Option Shuffling : No Is Question Mandatory : No Calculator : None Response Time : N.A Think Time : N.A Minimum Instruction Time : 0

Correct Marks : 5 Wrong Marks : 1

Question Key Details :

Key	Value
Comprehension	MCQ



- 1. 60°
- 2. $109^\circ 28'$
- 3. 108.9°
- 4. 180°

Options :

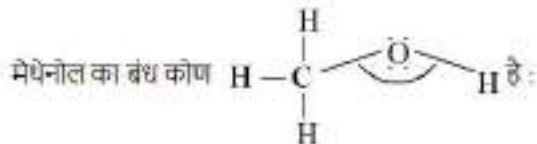
- 485584157717. 1
- 485584157718. 2
- 485584157719. 3
- 485584157720. 4

Question Number : 315 Question Id : 48558439430 Question Type : MCQ Option Shuffling : No Is Question Mandatory : No Calculator : None Response Time : N.A Think Time : N.A Minimum Instruction Time : 0

Correct Marks : 5 Wrong Marks : 1

Question Key Details :

Key	Value
Comprehension	MCQ



1. 60°
2. $109^\circ 28'$
3. 108.9°
4. 180°

Options :

485584157717. 1
 485584157718. 2
 485584157719. 3
 485584157720. 4

Question Number : 316 Question Id : 48558439431 Question Type : MCQ Option Shuffling : No Is Question Mandatory : No Calculator : None Response Time : N.A Think Time : N.A Minimum Instruction Time : 0

Correct Marks : 5 Wrong Marks : 1

Question Key Details :

Key	Value
Comprehension	MCQ

The magnetic moment of the complex species- $[\text{Fe}(\text{H}_2\text{O})_6]^{2+}$ and $\text{K}_2[\text{MnCl}_4]$ are 5.3 and 5.9 respectively. The number of unpaired electrons respectively are:

1. 4, 5
2. 4, 4
3. 5, 5
4. 5, 4

Options :

485584157721. 1
 485584157722. 2
 485584157723. 3
 485584157724. 4

Question Number : 316 Question Id : 48558439431 Question Type : MCQ Option Shuffling : No Is Question Mandatory : No Calculator : None Response Time : N.A Think Time : N.A Minimum Instruction Time : 0

Correct Marks : 5 Wrong Marks : 1

Question Key Details :

Key	Value
Comprehension	MCQ

संकुल शिथीज $[\text{Fe}(\text{H}_2\text{O})_6]^{2+}$ और $\text{K}_2[\text{MnCl}_4]$ का चुम्बकीय आघूर्ण क्रमशः 5.3 तथा 5.9 है। इनमें अयुग्म इलेक्ट्रॉन की संख्या क्रमशः है:

1. 4, 5
2. 4, 4
3. 5, 5
4. 5, 4

Options :

485584157721. 1
 485584157722. 2
 485584157723. 3
 485584157724. 4

Question Number : 317 Question Id : 48558439432 Question Type : MCQ Option Shuffling : No Is Question Mandatory : No Calculator : None
 Response Time : N.A Think Time : N.A Minimum Instruction Time : 0

Correct Marks : 5 Wrong Marks : 1

Question Key Details :

Key	Value
Comprehension	MCQ

Match List I with List II

LIST I		LIST II	
A.	$\text{CH}_3\text{CH}_2\text{NH}_2$	I.	N,N-Dimethylaniline
B.	$\begin{array}{c} \text{CH}_3 - \text{N} - \text{CH}_3 \\ \\ \text{CH}_3 \end{array}$	II.	Ethylamine
C.	$\text{C}_6\text{H}_5\text{NH}_2$	III.	Aniline
D.	$\text{C}_6\text{H}_5\text{N}(\text{CH}_3)_2$	IV.	Trimethylamine

Choose the correct answer from the options given below:

1. A-I, B-II, C-III, D-IV
2. A-II, B-I, C-III, D-IV
3. A-II, B-IV, C-III, D-I
4. A-III, B-II, C-I, D-IV

Options :

485584157725. 1
 485584157726. 2
 485584157727. 3
 485584157728. 4

Question Number : 317 Question Id : 48558439432 Question Type : MCQ Option Shuffling : No Is Question Mandatory : No Calculator : None
 Response Time : N.A Think Time : N.A Minimum Instruction Time : 0

Correct Marks : 5 Wrong Marks : 1

Question Key Details :

Key	Value
Comprehension	MCQ

सूची I का सूची II से मिलान कीजिए

सूची I		सूची II	
A.	$\text{CH}_3\text{CH}_2\text{NH}_2$	I.	N,N-डाइमिथायल ऐनितीन
B.	$\begin{array}{c} \text{CH}_3 - \text{N} - \text{CH}_3 \\ \\ \text{CH}_3 \end{array}$	II.	हैथायल ऐमिन
C.	$\text{C}_6\text{H}_5\text{NH}_2$	III.	ऐनितीन
D.	$\text{C}_6\text{H}_5\text{N}(\text{CH}_3)_2$	IV.	ट्राई मिथायल ऐमिन

निम्नलिखित विकल्पों में से सही उत्तर का चयन कीजिए :

1. A-I, B-II, C-III, D-IV
2. A-II, B-I, C-III, D-IV
3. A-II, B-IV, C-III, D-I
4. A-III, B-II, C-I, D-IV

Options :

485584157725. 1
485584157726. 2
485584157727. 3
485584157728. 4

Question Number : 318 Question Id : 48558439433 Question Type : MCQ Option Shuffling : No Is Question Mandatory : No Calculator : None Response Time : N.A Think Time : N.A Minimum Instruction Time : 0

Correct Marks : 5 Wrong Marks : 1

Question Key Details :

Key	Value
Comprehension	MCQ

Identify the pseudohalogen from the following ions:

1. BrO_3^-
2. CN^-
3. NO_3^-
4. Cl^-

Options :

485584157729. 1
485584157730. 2
485584157731. 3
485584157732. 4

Question Number : 318 Question Id : 48558439433 Question Type : MCQ Option Shuffling : No Is Question Mandatory : No Calculator : None Response Time : N.A Think Time : N.A Minimum Instruction Time : 0

Correct Marks : 5 Wrong Marks : 1

Question Key Details :

Key	Value
Comprehension	MCQ

निम्नलिखित आयनों से छदम हैलोजन पहचाने:

1. BrO_3^-
2. CN^-
3. NO_2^-
4. Cl^-

Options :

485584157729. 1
485584157730. 2
485584157731. 3
485584157732. 4

Question Number : 319 Question Id : 48558439434 Question Type : MCQ Option Shuffling : No Is Question Mandatory : No Calculator : None Response Time : N.A Think Time : N.A Minimum Instruction Time : 0

Correct Marks : 5 Wrong Marks : 1

Question Key Details :

Key	Value
Comprehension	MCQ

$[\text{Co}(\text{NH}_3)_4\text{Cl}(\text{NO}_2)]\text{Cl}$ will show:

- A. Solvate isomerism
- B. Linkage isomerism
- C. Coordination isomerism
- D. Ionisation isomerism

Choose the correct answer from the options given below:

1. A and B only
2. B and C only
3. B and D only
4. C and D only

Options :

485584157733. 1
485584157734. 2
485584157735. 3
485584157736. 4

Question Number : 319 Question Id : 48558439434 Question Type : MCQ Option Shuffling : No Is Question Mandatory : No Calculator : None Response Time : N.A Think Time : N.A Minimum Instruction Time : 0

Correct Marks : 5 Wrong Marks : 1

Question Key Details :

Key	Value
Comprehension	MCQ

$[\text{Co}(\text{NH}_3)_4\text{Cl}(\text{NO}_2)]\text{Cl}$ प्रदर्शित होगा-

- A. विलायक योजना समावयवता
- B. बंधनी समावयवता
- C. उप सह संयोजन समावयवता
- D. आयनन समावयवता

नीचे दिए गए विकल्पों में से सही उत्तर का चयन कीजिए:

1. केवल A और B
2. केवल B और C
3. केवल B और D
4. केवल C और D

Options :

- 485584157733. 1
- 485584157734. 2
- 485584157735. 3
- 485584157736. 4

Question Number : 320 Question Id : 48558439435 Question Type : MCQ Option Shuffling : No Is Question Mandatory : No Calculator : None Response Time : N.A Think Time : N.A Minimum Instruction Time : 0

Correct Marks : 5 Wrong Marks : 1

Question Key Details :

Key	Value
Comprehension	MCQ

Aniline forms meta nitro derivative in strongly acidic medium. The reason is-

1. $-\text{NH}_2$ group is meta directing
2. $-\text{NH}_2$ group is o-p directing
3. Anilinium ion is meta directing
4. $-\text{NH}_2$ group is highly reactive

Options :

- 485584157737. 1
- 485584157738. 2
- 485584157739. 3
- 485584157740. 4

Question Number : 320 Question Id : 48558439435 Question Type : MCQ Option Shuffling : No Is Question Mandatory : No Calculator : None Response Time : N.A Think Time : N.A Minimum Instruction Time : 0

Correct Marks : 5 Wrong Marks : 1

Question Key Details :

Key	Value
Comprehension	MCQ

शक्तिशाली आम्लीय माध्यम में ऐनिलीन, मेटानाइट्रो व्युत्पन्न बनाते हैं। इस का कारण है-

1. $-\text{NH}_2$ वर्ग मेटा निर्देशित है।
2. $-\text{NH}_2$ वर्ग ओर्थो-पेरा निर्देशित है।
3. ऐनिलिनियम आयन मेटा निर्देशित है।
4. $-\text{NH}_2$ वर्ग अधिक क्रियाशील है।

Options :

485584157737. 1
485584157738. 2
485584157739. 3
485584157740. 4

Question Number : 321 Question Id : 48558439436 Question Type : MCQ Option Shuffling : No Is Question Mandatory : No Calculator : None
Response Time : N.A Think Time : N.A Minimum Instruction Time : 0

Correct Marks : 5 Wrong Marks : 1

Question Key Details :

Key	Value
Comprehension	MCQ



Identify X:

1. $\text{C}_6\text{H}_{12}\text{O}_6$
2. $\text{C}_2\text{H}_2\text{O}_4$
3. C_2H_6
4. C_2H_8

Options :

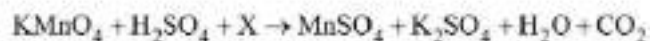
485584157741. 1
485584157742. 2
485584157743. 3
485584157744. 4

Question Number : 321 Question Id : 48558439436 Question Type : MCQ Option Shuffling : No Is Question Mandatory : No Calculator : None
Response Time : N.A Think Time : N.A Minimum Instruction Time : 0

Correct Marks : 5 Wrong Marks : 1

Question Key Details :

Key	Value
Comprehension	MCQ



X को पहचानें:

1. $\text{C}_6\text{H}_{12}\text{O}_6$
2. $\text{C}_2\text{H}_2\text{O}_4$
3. C_2H_6
4. C_2H_8

Options :

485584157741. 1
485584157742. 2
485584157743. 3
485584157744. 4

Question Number : 322 Question Id : 48558439437 Question Type : MCQ Option Shuffling : No Is Question Mandatory : No Calculator : None
Response Time : N.A Think Time : N.A Minimum Instruction Time : 0

Correct Marks : 5 Wrong Marks : 1

Question Key Details :

Key	Value
Comprehension	MCQ

In order to differentiate between N-methylmethanamine and N,N-Dimethylmethanamine, the reaction to be used is:

1. Carbylamine reaction
2. Gabriel Phthalimide reaction
3. Hoffmann Bromamide reaction
4. Hinsberg's test

Options :

485584157745. 1
485584157746. 2
485584157747. 3
485584157748. 4

Question Number : 322 Question Id : 48558439437 Question Type : MCQ Option Shuffling : No Is Question Mandatory : No Calculator : None
Response Time : N.A Think Time : N.A Minimum Instruction Time : 0

Correct Marks : 5 Wrong Marks : 1

Question Key Details :

Key	Value
Comprehension	MCQ

N-मिथायल मिथेनामाइन तथा N,N- डाईमिथायल मिथेनामाइन मे विभेद उत्पन्न करने के क्रम में अभिक्रिया प्रयुक्त होगी:

1. कार्बिलऐमिन अभिक्रिया
2. गेब्रिल थैलिमाइड अभिक्रिया
3. हॉफमेन ब्रोमामाइड अभिक्रिया
4. हिन्सबर्ग परीक्षण

Options :

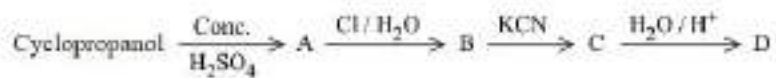
485584157745. 1
485584157746. 2
485584157747. 3
485584157748. 4

Question Number : 323 Question Id : 48558439438 Question Type : MCQ Option Shuffling : No Is Question Mandatory : No Calculator : None
Response Time : N.A Think Time : N.A Minimum Instruction Time : 0

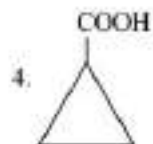
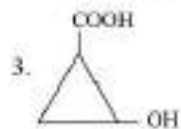
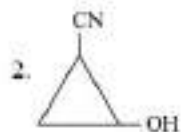
Correct Marks : 5 Wrong Marks : 1

Question Key Details :

Key	Value
Comprehension	MCQ



Identify D



Options :

485584157749. 1

485584157750. 2

485584157751. 3

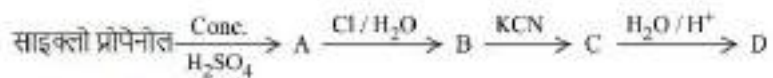
485584157752. 4

Question Number : 323 Question Id : 48558439438 Question Type : MCQ Option Shuffling : No Is Question Mandatory : No Calculator : None Response Time : N.A Think Time : N.A Minimum Instruction Time : 0


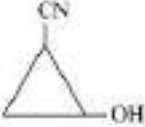
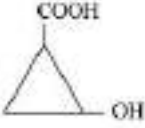

Correct Marks : 5 Wrong Marks : 1

Question Key Details :

Key	Value
Comprehension	MCQ



D को पहचानें

1. 
2. 
3. 
4. 

Options :

485584157749. 1
485584157750. 2
485584157751. 3
485584157752. 4

Question Number : 324 Question Id : 48558439439 Question Type : MCQ Option Shuffling : No Is Question Mandatory : No Calculator : None Response Time : N.A Think Time : N.A Minimum Instruction Time : 0

Correct Marks : 5 Wrong Marks : 1

Question Key Details :

Key	Value
Comprehension	MCQ

2,4-DNP is _____

1. 2,4-Dinitrophenol
2. 2,4-Dinitrophenylhydrazine
3. 2,4-Dinitrophenylhydrazone
4. 2,4-Dinitrophenylacetic acid

Options :

485584157753. 1
485584157754. 2
485584157755. 3
485584157756. 4

Question Number : 324 Question Id : 48558439439 Question Type : MCQ Option Shuffling : No Is Question Mandatory : No Calculator : None Response Time : N.A Think Time : N.A Minimum Instruction Time : 0

Correct Marks : 5 Wrong Marks : 1

Question Key Details :

Key	Value
Comprehension	MCQ

2,4-DNP है _____

1. 2,4-डाईनाइट्रोफीनोल
2. 2,4-डाईनाइट्रोफिनायल हाईड्राजीन
3. 2,4-डाईनाइट्रोफिनायल हाईड्राजोन
4. 2,4-डाईनाइट्रोफिनायल एसिटिक अम्ल

Options :

485584157753. 1
485584157754. 2
485584157755. 3
485584157756. 4

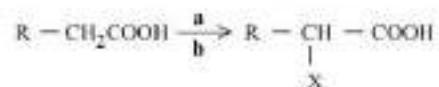
Question Number : 325 Question Id : 48558439440 Question Type : MCQ Option Shuffling : No Is Question Mandatory : No Calculator : None
Response Time : N.A Think Time : N.A Minimum Instruction Time : 0

Correct Marks : 5 Wrong Marks : 1

Question Key Details :

Key	Value
Comprehension	MCQ

Select the reagents **a** and **b** respectively, used in the Hell-Vollhard-Zelinsky reaction:



X = Cl, Br

- A. X_2
- B. X_2 / Red Phosphorus
- C. H_2O
- D. SOCl_2
- E. X_2 / Yellow Phosphorus

Choose the correct answer from the options given below:

1. A and C only
2. B and C only
3. D and E only
4. C and D only

Options :

485584157757. 1
485584157758. 2
485584157759. 3
485584157760. 4

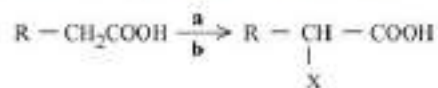
Question Number : 325 Question Id : 48558439440 Question Type : MCQ Option Shuffling : No Is Question Mandatory : No Calculator : None
Response Time : N.A Think Time : N.A Minimum Instruction Time : 0

Correct Marks : 5 Wrong Marks : 1

Question Key Details :

Key	Value
Comprehension	MCQ

निम्नलिखित हेल्-वॉलहार्ड-जिलि-सकी अभिक्रिया में प्रयुक्त अभिकर्मक क्रमशः a व b को चुनिए:



X = Cl, Br

- A. X_2
- B. X_2 / लाल फॉस्फोरस
- C. H_2O
- D. $SOCl_2$
- E. X_2 / पीला फॉस्फोरस

नीचे दिए गए विकल्पों में से सही उत्तर का चयन कीजिए:

1. केवल A और C
2. केवल B और C
3. केवल D और E
4. केवल C और D

Options :

- 485584157757. 1
- 485584157758. 2
- 485584157759. 3
- 485584157760. 4

Question Number : 326 Question Id : 48558439441 Question Type : MCQ Option Shuffling : No Is Question Mandatory : No Calculator : None Response Time : N.A Think Time : N.A Minimum Instruction Time : 0

Correct Marks : 5 Wrong Marks : 1

Question Key Details :

Key	Value
Comprehension	MCQ

Which compound is formed when a secondary alcohol is oxidized?

1. Ketone
2. Aldehyde
3. Alkene
4. Carboxylic acid

Options :

- 485584157761. 1
- 485584157762. 2
- 485584157763. 3
- 485584157764. 4

Question Number : 326 Question Id : 48558439441 Question Type : MCQ Option Shuffling : No Is Question Mandatory : No Calculator : None Response Time : N.A Think Time : N.A Minimum Instruction Time : 0

Correct Marks : 5 Wrong Marks : 1

Question Key Details :

Key	Value
Comprehension	MCQ

द्वितीयक एल्कोहल के ऑक्सीकरण से कौन सा यौगिक बनता है?

1. कीटोन
2. एल्डिहाइड
3. एल्डीन
4. कार्बोक्सिक अम्ल

Options :

485584157761. 1
 485584157762. 2
 485584157763. 3
 485584157764. 4

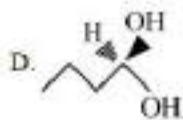
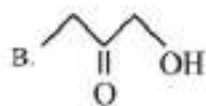
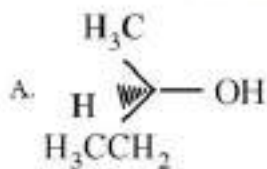
Question Number : 327 Question Id : 48558439442 Question Type : MCQ Option Shuffling : No Is Question Mandatory : No Calculator : None Response Time : N.A Think Time : N.A Minimum Instruction Time : 0

Correct Marks : 5 Wrong Marks : 1

Question Key Details :

Key	Value
Comprehension	MCQ

Which of the following compounds contain at least one secondary alcoholic group:



Choose the correct answer from the options given below:

1. A and B only
2. B and C only
3. A and C only
4. C and D only

Options :

485584157765. 1
 485584157766. 2
 485584157767. 3
 485584157768. 4

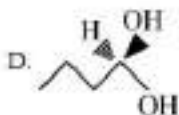
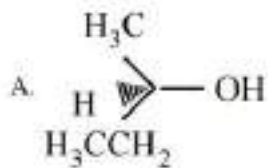
Question Number : 327 Question Id : 48558439442 Question Type : MCQ Option Shuffling : No Is Question Mandatory : No Calculator : None Response Time : N.A Think Time : N.A Minimum Instruction Time : 0

Correct Marks : 5 Wrong Marks : 1

Question Key Details :

Key	Value
Comprehension	MCQ

निम्नलिखित में से किस यौगिक में कम से कम एक द्वितीयक एल्कोहल ग्रुप है:



नीचे दिए गए विकल्पों में से सही उत्तर का चयन कीजिए:

1. केवल A और B
2. केवल B और C
3. केवल A और C
4. केवल C और D

Options :

485584157765. 1

485584157766. 2

485584157767. 3

485584157768. 4

Question Number : 328 Question Id : 48558439443 Question Type : MCQ Option Shuffling : No Is Question Mandatory : No Calculator : None Response Time : N.A Think Time : N.A Minimum Instruction Time : 0

Correct Marks : 5 Wrong Marks : 1

Question Key Details :

Key	Value
Comprehension	MCQ

During electrolytic refining of copper, some metals settle as anode mud. These metals are:

- A. Selenium and Tellurium
- B. Silver and Gold
- C. Gold and Platinum
- D. Zinc and Platinum
- E. Selenium, Gold and Platinum

Choose the correct answer from the options given below:

- 1. A, D, E only
- 2. A, B, C and E only
- 3. C, D and E only
- 4. A, C, D, E only

Options :

- 485584157769. 1
- 485584157770. 2
- 485584157771. 3
- 485584157772. 4

Question Number : 328 Question Id : 48558439443 Question Type : MCQ Option Shuffling : No Is Question Mandatory : No Calculator : None Response Time : N.A Think Time : N.A Minimum Instruction Time : 0

Correct Marks : 5 Wrong Marks : 1

Question Key Details :

Key	Value
Comprehension	MCQ

तांबा की वैद्युत अपघटन शोधन क्रिया के मध्य, कुछ धातुएं एनोड मड के रूप में बैठ जाती है। यह धातु है:

- A. सेलेनियम और टेल्यूरियम
- B. रजत तथा स्वर्ण
- C. स्वर्ण तथा प्लेटिनम
- D. जिंक तथा प्लेटिनम
- E. सेलेनियम, स्वर्ण तथा प्लेटिनम

नीचे दिए गए विकल्पों में से सही उत्तर का चयन कीजिए:

- 1. केवल A, D, E
- 2. केवल A, B, C और E
- 3. केवल C, D और E
- 4. केवल A, C, D, E

Options :

- 485584157769. 1
- 485584157770. 2
- 485584157771. 3
- 485584157772. 4

Question Number : 329 Question Id : 48558439444 Question Type : MCQ Option Shuffling : No Is Question Mandatory : No Calculator : None Response Time : N.A Think Time : N.A Minimum Instruction Time : 0

Correct Marks : 5 Wrong Marks : 1

Question Key Details :

Key	Value
Comprehension	MCQ

Zinc metal reacts with dilute nitric acid to liberate gas:

1. NO_2
2. N_2O
3. NO
4. N_2O_3

Options :

485584157773. 1
485584157774. 2
485584157775. 3
485584157776. 4

Question Number : 329 Question Id : 48558439444 Question Type : MCQ Option Shuffling : No Is Question Mandatory : No Calculator : None Response Time : N.A Think Time : N.A Minimum Instruction Time : 0

Correct Marks : 5 Wrong Marks : 1

Question Key Details :

Key	Value
Comprehension	MCQ

जिंक धातु तनु नाईट्रिक अम्ल से अभिक्रिया करके गैस उत्पन्न करती है:

1. NO_2
2. N_2O
3. NO
4. N_2O_3

Options :

485584157773. 1
485584157774. 2
485584157775. 3
485584157776. 4

Question Number : 330 Question Id : 48558439445 Question Type : MCQ Option Shuffling : No Is Question Mandatory : No Calculator : None Response Time : N.A Think Time : N.A Minimum Instruction Time : 0

Correct Marks : 5 Wrong Marks : 1

Question Key Details :

Key	Value
Comprehension	MCQ

Match List I with List II

LIST I		LIST II	
A.	Rosenmund reduction	I.	$\text{CrO}_2\text{Cl}_2, \text{CS}_2, \text{H}_3\text{O}^+$
B.	Etard Reaction	II.	$\text{CO}, \text{HCl/Anhyd. AlCl}_3, \text{CuCl}$
C.	Gatterman-Koch reaction	III.	$\text{H}_2\text{-Pd-BaSO}_4$
D.	Clemmensen reduction	IV.	Zn-Hg/HCl

Choose the correct answer from the options given below:

1. A-IV, B-I, C-II, D-I
2. A-III, B-I, C-II, D-IV
3. A-III, B-II, C-I, D-IV
4. A-II, B-I, C-IV, D-III

Options :

485584157777. 1
485584157778. 2
485584157779. 3
485584157780. 4

Question Number : 330 Question Id : 48558439445 Question Type : MCQ Option Shuffling : No Is Question Mandatory : No Calculator : None Response Time : N.A Think Time : N.A Minimum Instruction Time : 0

Correct Marks : 5 Wrong Marks : 1

Question Key Details :

Key	Value
Comprehension	MCQ

सूची I का सूची II से मिलान कीजिए

सूची I		सूची II	
A.	रीजेनर्मुंड अपचयन	I.	$\text{CrO}_2\text{Cl}_2/\text{CS}_2, \text{H}_3\text{O}^+$
B.	इटार्ड अभिक्रिया	II.	$\text{CO}, \text{HCl/निर्जलीय. AlCl}_3, \text{CuCl}$
C.	गैटरमैन-कोच अभिक्रिया	III.	$\text{H}_2\text{-Pd-BaSO}_4$
D.	क्लेममसन अपचयन	IV.	Zn-Hg/HCl

निम्नलिखित विकल्पों में से सही उत्तर का चयन कीजिए :

1. A-IV, B-I, C-II, D-I
2. A-III, B-I, C-II, D-IV
3. A-III, B-II, C-I, D-IV
4. A-II, B-I, C-IV, D-III

Options :

485584157777. 1
485584157778. 2
485584157779. 3
485584157780. 4

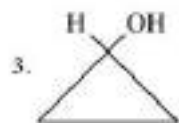
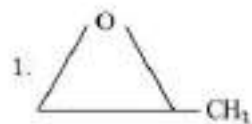

Question Number : 331 Question Id : 48558439446 Question Type : MCQ Option Shuffling : No Is Question Mandatory : No Calculator : None Response Time : N.A Think Time : N.A Minimum Instruction Time : 0

Correct Marks : 5 Wrong Marks : 1

Question Key Details :

Key	Value
Comprehension	MCQ

Which of the following does not depict an isomer of oxetane



Options :

485584157781. 1

485584157782. 2

485584157783. 3

485584157784. 4

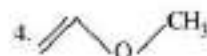
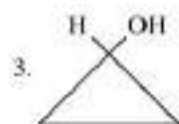
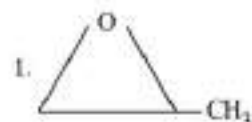
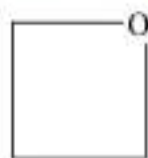
Question Number : 331 Question Id : 48558439446 Question Type : MCQ Option Shuffling : No Is Question Mandatory : No Calculator : None Response Time : N.A Think Time : N.A Minimum Instruction Time : 0

Correct Marks : 5 Wrong Marks : 1

Question Key Details :

Key	Value
Comprehension	MCQ

निम्नलिखित में कौन सा ऑक्सीटेन की समावयवता प्रदर्शित नहीं करता



Options :

485584157781. 1

485584157782. 2

485584157783. 3
485584157784. 4

Question Number : 332 Question Id : 48558439447 Question Type : MCQ Option Shuffling : No Is Question Mandatory : No Calculator : None
Response Time : N.A Think Time : N.A Minimum Instruction Time : 0

Correct Marks : 5 Wrong Marks : 1

Question Key Details :

Key	Value
Comprehension	MCQ

Electronic configuration of d^6 when $\Delta_o < P$

1. $t_2g^5 eg^1$

2. $t_2g^6 eg^0$

3. $t_2g^4 eg^2$

4. $t_2g^2 eg^4$

Options :

485584157785. 1
485584157786. 2
485584157787. 3
485584157788. 4

Question Number : 332 Question Id : 48558439447 Question Type : MCQ Option Shuffling : No Is Question Mandatory : No Calculator : None
Response Time : N.A Think Time : N.A Minimum Instruction Time : 0

Correct Marks : 5 Wrong Marks : 1

Question Key Details :

Key	Value
Comprehension	MCQ

d^6 का इलेक्ट्रॉन विन्यास जब $\Delta_o < P$

1. $t_2g^5 eg^1$

2. $t_2g^6 eg^0$

3. $t_2g^4 eg^2$

4. $t_2g^2 eg^4$

Options :

485584157785. 1
485584157786. 2
485584157787. 3
485584157788. 4

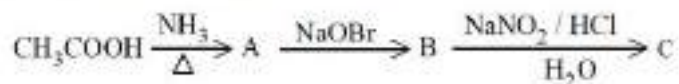
Question Number : 333 Question Id : 48558439448 Question Type : MCQ Option Shuffling : No Is Question Mandatory : No Calculator : None
Response Time : N.A Think Time : N.A Minimum Instruction Time : 0

Correct Marks : 5 Wrong Marks : 1

Question Key Details :

Key	Value
Comprehension	MCQ

In the given reaction, the end-product is-



C is-

1. Ethyl alcohol
2. Methyl alcohol
3. Acetaldehyde
4. Methylamine

Options :

485584157789. 1
485584157790. 2
485584157791. 3
485584157792. 4

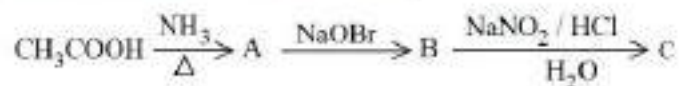
Question Number : 333 Question Id : 48558439448 Question Type : MCQ Option Shuffling : No Is Question Mandatory : No Calculator : None
Response Time : N.A Think Time : N.A Minimum Instruction Time : 0

Correct Marks : 5 Wrong Marks : 1

Question Key Details :

Key	Value
Comprehension	MCQ

निम्नलिखित अभिक्रिया का अंतिम उत्पाद है-



C is-

1. ईथायल एल्कोहल
2. मिथायल एल्कोहल
3. ऐसिटल्डिहाइड
4. मिथायलेमीन

Options :

485584157789. 1
485584157790. 2
485584157791. 3
485584157792. 4

Question Number : 334 Question Id : 48558439449 Question Type : MCQ Option Shuffling : No Is Question Mandatory : No Calculator : None
Response Time : N.A Think Time : N.A Minimum Instruction Time : 0

Correct Marks : 5 Wrong Marks : 1

Question Key Details :

Key	Value
Comprehension	MCQ

Co-ordination compounds present in following biological systems:

- A. Chlorophyll
- B. Haemoglobin
- C. Vitamin B₁₂
- D. Enzymes
- E. Roots

Choose the correct answer from the options given below:

1. A, B, C and D only
2. A, B, C only
3. A, C and E only
4. E only

Options :

- 485584157793. 1
- 485584157794. 2
- 485584157795. 3
- 485584157796. 4

Question Number : 334 Question Id : 48558439449 Question Type : MCQ Option Shuffling : No Is Question Mandatory : No Calculator : None Response Time : N.A Think Time : N.A Minimum Instruction Time : 0

Correct Marks : 5 Wrong Marks : 1

Question Key Details :

Key	Value
Comprehension	MCQ

जैविक तंत्र में, निम्नलिखित में से सहसंयोजक यौगिक उपस्थित हैं :

- A. क्लोरोफिल
- B. हीमोग्लोबिन
- C. विटामिन B₁₂
- D. एन्जाइम
- E. जड़ें

नीचे दिए गए विकल्पों में से सही उत्तर का चयन कीजिए:

1. केवल A, B, C और D
2. केवल A, B, C
3. केवल A, C और E
4. केवल E

Options :

- 485584157793. 1
- 485584157794. 2
- 485584157795. 3
- 485584157796. 4

Question Number : 335 Question Id : 48558439450 Question Type : MCQ Option Shuffling : No Is Question Mandatory : No Calculator : None Response Time : N.A Think Time : N.A Minimum Instruction Time : 0

Correct Marks : 5 Wrong Marks : 1

Question Key Details :

Key	Value
Comprehension	MCQ



Compound 'X' in the above reaction is:

1. I_2
2. IO_2^{2-}
3. IO_4^-
4. IO_3^-

Options :

485584157797. 1
485584157798. 2
485584157799. 3
485584157800. 4

Question Number : 335 Question Id : 48558439450 Question Type : MCQ Option Shuffling : No Is Question Mandatory : No Calculator : None
Response Time : N.A Think Time : N.A Minimum Instruction Time : 0

Correct Marks : 5 Wrong Marks : 1

Question Key Details :

Key	Value
Comprehension	MCQ



उपरोक्त अभिक्रिया में यौगिक 'X' है:

1. I_2
2. IO_2^{2-}
3. IO_4^-
4. IO_3^-

Options :

485584157797. 1
485584157798. 2
485584157799. 3
485584157800. 4

Question Number : 336 Question Id : 48558439451 Question Type : MCQ Option Shuffling : No Is Question Mandatory : No Calculator : None
Response Time : N.A Think Time : N.A Minimum Instruction Time : 0

Correct Marks : 5 Wrong Marks : 1

Question Key Details :

Key	Value
Comprehension	MCQ

Which of the following statements relating to the acidic character of alcohols is not true?

1. It is due to the polar nature of OH bond.
2. Increases with an attachment of e^- withdrawing group.
3. Alcohols are weaker acids than water.
4. Alcohols behave as electrophiles.

Options :

485584157801. 1
 485584157802. 2
 485584157803. 3
 485584157804. 4

Question Number : 336 Question Id : 48558439451 Question Type : MCQ Option Shuffling : No Is Question Mandatory : No Calculator : None
 Response Time : N.A Think Time : N.A Minimum Instruction Time : 0

Correct Marks : 5 Wrong Marks : 1

Question Key Details :

Key	Value
Comprehension	MCQ

निम्नलिखित कथनों में से एल्कोहल के संबंध में सत्य नहीं है ?

1. यह OH बंध की ध्रुवीय प्रकृति के कारण है।
2. e^- निष्कासित करने वाले समूह के जुड़ने के साथ बढ़ता है।
3. एल्कोहल जल से अधिक दुर्बल अम्ल है।
4. एल्कोहल, इलेक्ट्रान सागी की तरह व्यवहार करता है।

Options :

485584157801. 1
 485584157802. 2
 485584157803. 3
 485584157804. 4

Question Number : 337 Question Id : 48558439452 Question Type : MCQ Option Shuffling : No Is Question Mandatory : No Calculator : None
 Response Time : N.A Think Time : N.A Minimum Instruction Time : 0

Correct Marks : 5 Wrong Marks : 1

Question Key Details :

Key	Value
Comprehension	MCQ

Arrange the following in increasing order of their basic strength:

- A. NH_3
- B. AsH_3
- C. PH_3
- D. BiH_3
- E. SbH_3

Choose the correct answer from the options given below:

1. $D < E < A < B < C$
2. $D < E < B < C < A$
3. $A < C < B < D < E$
4. $A < C < B < E < D$

Options :

485584157805. 1
 485584157806. 2
 485584157807. 3
 485584157808. 4

Question Number : 337 Question Id : 48558439452 Question Type : MCQ Option Shuffling : No Is Question Mandatory : No Calculator : None
 Response Time : N.A Think Time : N.A Minimum Instruction Time : 0

Correct Marks : 5 Wrong Marks : 1

Question Key Details :

Key	Value
Comprehension	MCQ

निम्नलिखित को क्षारीय दुर्बलता के आरोही क्रम में लिखिए:

- A. NH_3
- B. AsH_3
- C. PH_3
- D. BiH_3
- E. SbH_3

नीचे दिए गए विकल्पों में से सही उत्तर का चयन कीजिए:

- 1. $D < E < A < B < C$
- 2. $D < E < B < C < A$
- 3. $A < C < B < D < E$
- 4. $A < C < B < E < D$

Options :

- 485584157805. 1
- 485584157806. 2
- 485584157807. 3
- 485584157808. 4

Question Number : 338 Question Id : 48558439453 Question Type : MCQ Option Shuffling : No Is Question Mandatory : No Calculator : None Response Time : N.A Think Time : N.A Minimum Instruction Time : 0

Correct Marks : 5 Wrong Marks : 1

Question Key Details :

Key	Value
Comprehension	MCQ

Order and molecularity in the given reaction is



$$\text{Rate} = k [\text{CHCl}_3] [\text{Cl}_2]^{\frac{1}{2}}$$

- 1. $\frac{3}{2}$ and 0
- 2. $\frac{3}{2}$ and 2
- 3. $\frac{3}{2}$ and $\frac{3}{2}$
- 4. 2 and $\frac{3}{2}$

Options :

- 485584157809. 1
- 485584157810. 2
- 485584157811. 3
- 485584157812. 4

Question Number : 338 Question Id : 48558439453 Question Type : MCQ Option Shuffling : No Is Question Mandatory : No Calculator : None Response Time : N.A Think Time : N.A Minimum Instruction Time : 0

Correct Marks : 5 Wrong Marks : 1

Question Key Details :

Key	Value
Comprehension	MCQ

निम्नलिखित अभिक्रिया में कोटि तथा आणितकता हे



$$\text{Rate} = k [\text{CHCl}_3][\text{Cl}_2]^{\frac{1}{2}}$$

1. $\frac{3}{2}$ और 0

2. $\frac{3}{2}$ और 2

3. $\frac{3}{2}$ और $\frac{3}{2}$

4. 2 और $\frac{3}{2}$

Options :

485584157809. 1

485584157810. 2

485584157811. 3

485584157812. 4

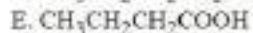
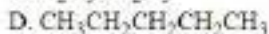
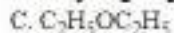
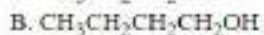
Question Number : 339 Question Id : 48558439454 Question Type : MCQ Option Shuffling : No Is Question Mandatory : No Calculator : None Response Time : N.A Think Time : N.A Minimum Instruction Time : 0

Correct Marks : 5 Wrong Marks : 1

Question Key Details :

Key	Value
Comprehension	MCQ

Arrange the following in increasing order of their boiling points:



Choose the correct answer from the options given below:

1. $\text{D} < \text{E} < \text{B} < \text{A} < \text{C}$

2. $\text{D} < \text{E} < \text{A} < \text{B} < \text{C}$

3. $\text{D} < \text{C} < \text{A} < \text{E} < \text{B}$

4. $\text{D} < \text{C} < \text{A} < \text{B} < \text{E}$

Options :

485584157813. 1

485584157814. 2

485584157815. 3

485584157816. 4

Question Number : 339 Question Id : 48558439454 Question Type : MCQ Option Shuffling : No Is Question Mandatory : No Calculator : None
Response Time : N.A Think Time : N.A Minimum Instruction Time : 0

Correct Marks : 5 Wrong Marks : 1

Question Key Details :

Key	Value
Comprehension	MCQ

निम्नलिखित कथनांक को आरोही क्रम में व्यवस्थित कीजिए:

- A. $\text{CH}_3\text{CH}_2\text{CH}_2\text{CHO}$
- B. $\text{CH}_3\text{CH}_2\text{CH}_2\text{CH}_2\text{OH}$
- C. $\text{C}_2\text{H}_5\text{OC}_2\text{H}_5$
- D. $\text{CH}_3\text{CH}_2\text{CH}_2\text{CH}_2\text{CH}_3$
- E. $\text{CH}_3\text{CH}_2\text{CH}_2\text{COOH}$

नीचे दिए गए विकल्पों में से सही उत्तर का चयन कीजिए:

- 1. $\text{D} < \text{E} < \text{B} < \text{A} < \text{C}$
- 2. $\text{D} < \text{E} < \text{A} < \text{B} < \text{C}$
- 3. $\text{D} < \text{C} < \text{A} < \text{E} < \text{B}$
- 4. $\text{D} < \text{C} < \text{A} < \text{B} < \text{E}$

Options :

- 485584157813. 1
- 485584157814. 2
- 485584157815. 3
- 485584157816. 4

Question Number : 340 Question Id : 48558439455 Question Type : MCQ Option Shuffling : No Is Question Mandatory : No Calculator : None
Response Time : N.A Think Time : N.A Minimum Instruction Time : 0

Correct Marks : 5 Wrong Marks : 1

Question Key Details :

Key	Value
Comprehension	MCQ

The sodium soap prepared from glyceryl palmitate

$(\text{C}_{15}\text{H}_{31}\text{COO})_3\text{C}_3\text{H}_5$, is:

- 1. $(\text{C}_3\text{H}_5)_3\text{COONa}$
- 2. $\text{C}_{15}\text{H}_{31}\text{COONa}$
- 3. $(\text{C}_{15}\text{H}_{31}\text{COO})_3\text{Na}$
- 4. $\text{C}_3\text{H}_5\text{COONa}$

Options :

- 485584157817. 1
- 485584157818. 2
- 485584157819. 3
- 485584157820. 4

Question Number : 340 Question Id : 48558439455 Question Type : MCQ Option Shuffling : No Is Question Mandatory : No Calculator : None
Response Time : N.A Think Time : N.A Minimum Instruction Time : 0

Correct Marks : 5 Wrong Marks : 1

Question Key Details :

Key	Value
-----	-------

Comprehension	MCQ
---------------	-----

सोडियम साबुन ग्लिसराईल पल्मिटेट से बनाये जाते है

$(C_{15}H_{31}COO)_3C_3H_5$, is:

1. $(C_3H_5)_3COONa$
2. $C_{15}H_{31}COONa$
3. $(C_{15}H_{31}COO)_3Na$
4. C_3H_5COONa

Options :

485584157817. 1
485584157818. 2
485584157819. 3
485584157820. 4

Sub-Section Number : 2
Sub-Section Id : 4855842913
Question Shuffling Allowed : No
Is Section Default? : null

Question Number : 341 Question Id : 48558439456 Question Type : MCQ Option Shuffling : No Is Question Mandatory : No Calculator : None Response Time : N.A Think Time : N.A Minimum Instruction Time : 0

Correct Marks : 5 Wrong Marks : 1

Question Key Details :

Key	Value
Comprehension	Compl

A colloid is a heterogeneous system in which one substance is dispersed as very fine particles in another substance called dispersion medium. Colloids are classified on the basis of physical state of dispersed phase and dispersion medium. Nature of interaction between dispersed phase and dispersion medium and types of particles of dispersed phase. There are various methods for the preparation of colloidal solutions such as chemical methods, electrical disintegration and peptization. Colloidal solutions when prepared, generally contain excessive amount of electrolytes, and some other soluble impurities. The process used for reducing the amount of impurities to a requisite minimum is known as purification of colloidal solution. Purification of colloidal solution is carried out by various methods such as Dialysis, Electrodialysis, Ultrafiltration etc. Colligative properties, Tyndall effect, colour, Brownian movement charge on colloidal particles, electrophoresis, coagulation are various properties exhibited by colloidal solution.

The formation of micelles takes place only above a particular temperature known as:

1. Critical temperature
2. Kraft temperature
3. Critical micelle concentration
4. Micelle temperature

Options :

485584157821. 1
485584157822. 2
485584157823. 3
485584157824. 4

Question Number : 341 Question Id : 48558439456 Question Type : MCQ Option Shuffling : No Is Question Mandatory : No Calculator : None Response Time : N.A Think Time : N.A Minimum Instruction Time : 0

Correct Marks : 5 Wrong Marks : 1

Question Key Details :

Key	Value
Comprehension	Compl

कोलॉइड एक विषमांगी तंत्र होता है जिसमें एक पदार्थ बहुत बारीक कणों के रूप में परिक्षिप्त प्रावस्था में एक दूसरे पदार्थ में परिक्षेपित रहता है जिसे परिक्षेपित माध्यम कहते हैं। कोलॉइड का वर्गीकरण भौतिक अवस्था में परिक्षिप्त माध्यम में मिलने पर कणों की प्रकृति पर निर्भर करता है। कोलॉइड प्राप्त करने के अनेकों प्रकार हैं जैसे रासायनिक विधि, वैद्युत विघटन और पेप्टाइजेशन। कोलॉइड विलयन बनाते समय, सामान्यतया आत्यधिक मात्रा में वैद्युत अपघटय और घुलनशील अशुद्धियाँ पायी जाती है। अशुद्धियों की मात्रा को कम करने की विधि को कोलॉइड विलयन का शुद्धिकरण या शोधन कहते हैं। कोलॉइड विलयन को विभिन्न विधियों से शोधन किया जाता है जैसे अपोहन, वैद्युत अपोहन, अतिसूक्ष्म निस्यंदन आदि। अणुसंख्य गुणधर्म, टिंडल प्रभाव, रंग, ब्राउननी गति आवेश कोलॉइड पर वैद्युत कण संचलन, स्कंदन आदि कोलॉइड के विभिन्न गुणों को प्रदर्शित करते हैं।

मिसेल निर्माण की प्रक्रिया विशिष्ट तापक्रम पर की जाती है, जिसे कहते हैं :

1. क्रांतिक तापक्रम
2. क्राप्ट तापक्रम
3. क्रांतिक मिसेल सांद्रता
4. मिसेल तापक्रम

Options :

485584157821. 1
485584157822. 2
485584157823. 3
485584157824. 4

Question Number : 342 Question Id : 48558439457 Question Type : MCQ Option Shuffling : No Is Question Mandatory : No Calculator : None Response Time : N.A Think Time : N.A Minimum Instruction Time : 0

Correct Marks : 5 Wrong Marks : 1

Question Key Details :

Key	Value
Comprehension	Compl

A colloid is a heterogeneous system in which one substance is dispersed as very fine particles in another substance called dispersion medium. Colloids are classified on the basis of physical state of dispersed phase and dispersion medium. Nature of interaction between dispersed phase and dispersion medium and types of particles of dispersed phase. There are various methods for the preparation of colloidal solutions such as chemical methods, electrical disintegration and peptization. Colloidal solutions when prepared, generally contain excessive amount of electrolytes, and some other soluble impurities. The process used for reducing the amount of impurities to a requisite minimum is known as purification of colloidal solution. Purification of colloidal solution is carried out by various methods such as Dialysis, Electrodialysis, Ultrafiltration etc. Colligative properties, Tyndall effect, colour, Brownian movement charge on colloidal particles, electrophoresis, coagulation are various properties exhibited by colloidal solution.

The chemical composition of collodion is:

1. 4% solution of alcohol in a mixture of nitrocellulose and ether.
2. 4% solution of nitrocellulose in a mixture of acetone and ether.
3. 4% solution of nitrocellulose in a mixture of alcohol and ether.
4. 4% solution of nitrophenol in a mixture of alcohol and ether.

Options :

485584157825. 1
485584157826. 2
485584157827. 3
485584157828. 4

Question Number : 342 Question Id : 48558439457 Question Type : MCQ Option Shuffling : No Is Question Mandatory : No Calculator : None
Response Time : N.A Think Time : N.A Minimum Instruction Time : 0

Correct Marks : 5 Wrong Marks : 1

Question Key Details :

Key	Value
Comprehension	Compl

कोलॉइड एक विषममंगी तंत्र होता है जिसमें एक पदार्थ बहुत बारीक कणों के रूप में परिक्षिप्त प्रावस्था में एक दूसरे पदार्थ में परिक्षिप्त रहता है जिसे परिक्षिप्त माध्यम कहते हैं। कोलॉइड का वर्गीकरण भौतिक अवस्था में परिक्षिप्त माध्यम में मिलने पर कणों की प्रकृति पर निर्भर करता है। कोलॉयड प्राप्त करने के अनेकों प्रकार हैं जैसे रासायनिक विधि, वैद्युत विघटन और पेण्ड्रिजेशन। कोलॉयड विलयन बनाते समय, सामान्यतया आत्यधिक मात्रा में वैद्युत अपघटय और घुलनशील अशुद्धिया पायी जाती है। अशुद्धियों की मात्रा को कम करने की विधि को कोलॉइड विलयन का शुद्धिकरण या शोधन कहते हैं। कोलॉइड विलयन को विभिन्न विधियों से शोधन किया जाता है जैसे अपोहन, वैद्युत अपोहन, अतिसूक्ष्म निस्पंदन आदि। अणुसंख्य गुणधर्म, टिंडल प्रभाव, रंग, ब्राउनी गति आवेश कोलॉइड पर वैद्युत कण संचलन, स्कंदन आदि कोलॉइड के विभिन्न गुणों को प्रदर्शित करते हैं।

कोलॉइडों की रासायनिक संरचना है:

1. 4% एल्कोहल के विलयन के नाइट्रोसेलूलोज तथा ईथर के मिश्रण में
2. 4% नाइट्रोसेलूलोज विलयन को, एसीटोन और ईथर के मिश्रण में
3. 4% नाइट्रोसेलूलोज विलयन को, एल्कोहल और ईथर के मिश्रण में
4. 4% नाइट्रोफीनोल को, एल्कोहल व ईथर के मिश्रण में

Options :

485584157825. 1
485584157826. 2
485584157827. 3
485584157828. 4

Question Number : 343 Question Id : 48558439458 Question Type : MCQ Option Shuffling : No Is Question Mandatory : No Calculator : None
Response Time : N.A Think Time : N.A Minimum Instruction Time : 0

Correct Marks : 5 Wrong Marks : 1

Question Key Details :

Key	Value
Comprehension	Compl

A colloid is a heterogeneous system in which one substance is dispersed as very fine particles in another substance called dispersion medium. Colloids are classified on the basis of physical state of dispersed phase and dispersion medium. Nature of interaction between dispersed phase and dispersion medium and types of particles of dispersed phase. There are various methods for the preparation of colloidal solutions such as chemical methods, electrical disintegration and peptization. Colloidal solutions when prepared, generally contain excessive amount of electrolytes, and some other soluble impurities. The process used for reducing the amount of impurities to a requisite minimum is known as purification of colloidal solution. Purification of colloidal solution is carried out by various methods such as Dialysis, Electrodialysis, Ultrafiltration etc. Colligative properties, Tyndall effect, colour, Brownian movement charge on colloidal particles, electrophoresis, coagulation are various properties exhibited by colloidal solution.

Which among the given statements CANNOT be defined as the property of colloidal solution:

1. Finest gold sol is red in colour, as the size of particle increases, it appear purple, then blue and finally golden.
2. The charge on the sol particles is due to preferential adsorption of ions from solution.
3. Electric arc is struck between the electrodes of the metal immersed in the dispersion medium.
4. Colloidal particles always appear to be in a state of continuous zig-zag motion.

Options :

485584157829. 1
485584157830. 2
485584157831. 3
485584157832. 4

Question Number : 343 Question Id : 48558439458 Question Type : MCQ Option Shuffling : No Is Question Mandatory : No Calculator : None
Response Time : N.A Think Time : N.A Minimum Instruction Time : 0

Correct Marks : 5 Wrong Marks : 1

Question Key Details :

Key	Value
Comprehension	Compl

कोलॉइड एक विषमांगी तंत्र होता है जिसमें एक पदार्थ बहुत बारीक कणों के रूप में परिक्षिप्त प्रावस्था में एक दूसरे पदार्थ में परिक्षेपित रहता है जिसे परिक्षेपित माध्यम कहते हैं। कोलॉइड का वर्गीकरण भौतिक अवस्था में परिक्षिप्त माध्यम में मिलने पर कणों की प्रकृति पर निर्भर करता है। कोलॉइड प्राप्त करने के अनेकों प्रकार हैं जैसे रासायनिक विधि, वेद्युत विघटन और पेराइजेशन। कोलॉइड विलयन बनाते समय, सामान्यतया आत्यधिक मात्रा में वेद्युत अपघटय और घुलनशील अशुद्धिया पायी जाती है। अशुद्धियों की मात्रा को कम करने की विधि को कोलॉइड विलयन का शुद्धिकरण या शोधन कहते हैं। कोलॉइड विलयन को विभिन्न विधियों से शोधन किया जाता है जैसे अपोहन, वेद्युत अपोहन, अतिसूक्ष्म निस्यंदन आदि। अणुसंख्य गुणधर्म, टिंडल प्रभाव, रंग, ब्राउनी गति आवेश कोलॉइड पर वेद्युत कण संचलन, स्कंदन आदि कोलॉइड के विभिन्न गुणों को प्रदर्शित करते हैं।

इनमें से कौन सा कथन कोलॉइड विलयन के गुणों का नहीं दर्शाता:

1. शुद्ध स्वर्ण सॉल लाल रंग का है, जैसे कणों का आकार बढ़ता है, यह बैंगनी प्रतीत होता है, ततपश्चात नीला और अन्त में स्वर्ण।
2. सॉल कणों पर आवेश, वरीयता क्रमके विलयन से अधिशोषित आयनों के कारण।
3. वेद्युत आर्क जब परिक्षेपण माध्यम में धातु के इलेक्ट्रोड लूब कर टकराते हैं।
4. कोलॉइड कणों का सदैव लगातार टेढ़ी-मेढ़ी गति की अवस्था में दिखाई देते हैं।

Options :

485584157829. 1
485584157830. 2
485584157831. 3
485584157832. 4

Question Number : 344 Question Id : 48558439459 Question Type : MCQ Option Shuffling : No Is Question Mandatory : No Calculator : None
Response Time : N.A Think Time : N.A Minimum Instruction Time : 0

Correct Marks : 5 Wrong Marks : 1

Question Key Details :

Key	Value
Comprehension	Compl

A colloid is a heterogeneous system in which one substance is dispersed as very fine particles in another substance called dispersion medium. Colloids are classified on the basis of physical state of dispersed phase and dispersion medium. Nature of interaction between dispersed phase and dispersion medium and types of particles of dispersed phase. There are various methods for the preparation of colloidal solutions such as chemical methods, electrical disintegration and peptization. Colloidal solutions when prepared, generally contain excessive amount of electrolytes, and some other soluble impurities. The process used for reducing the amount of impurities to a requisite minimum is known as purification of colloidal solution. Purification of colloidal solution is carried out by various methods such as Dialysis, Electrodialysis, Ultrafiltration etc. Colligative properties, Tyndall effect, colour, Brownian movement charge on colloidal particles, electrophoresis, coagulation are various properties exhibited by colloidal solution.

Identify correct increasing order of coagulation power of electrolytes:

- A. $\text{NaCl} < \text{MgCl}_2 < \text{AlCl}_3$
- B. $\text{AlCl}_3 < \text{MgCl}_2 < \text{NaCl}$
- C. $\text{Na}_4[\text{Fe}(\text{CN})_6] < \text{Na}_3\text{PO}_4 < \text{NaCl} < \text{Na}_2\text{SO}_4$
- D. $\text{KCl} < \text{K}_3\text{PO}_4 < \text{K}_2\text{SO}_4 < \text{K}_4[\text{Fe}(\text{CN})_6]$
- E. $\text{KCl} < \text{K}_2\text{SO}_4 < \text{K}_3\text{PO}_4 < \text{K}_4[\text{Fe}(\text{CN})_6]$

Choose the correct answer from the options given below:

- 1. B and D only
- 2. A, B, C only
- 3. C, D and E only
- 4. A, E only

Options :

- 485584157833. 1
- 485584157834. 2
- 485584157835. 3
- 485584157836. 4

Question Number : 344 Question Id : 48558439459 Question Type : MCQ Option Shuffling : No Is Question Mandatory : No Calculator : None Response Time : N.A Think Time : N.A Minimum Instruction Time : 0

Correct Marks : 5 Wrong Marks : 1

Question Key Details :

Key	Value
Comprehension	Comp1

कोलॉइड एक विषमांगी तंत्र होता है जिसमें एक पदार्थ बहुत बारीक कणों के रूप में परिक्षिप्त प्रावस्था में एक दूसरे पदार्थ में परिक्षिप्त रहता है जिसे परिक्षिप्त माध्यम कहते हैं। कोलॉइड का वर्गीकरण भौतिक अवस्था में परिक्षिप्त माध्यम में मिलने पर कणों की प्रकृति पर निर्भर करता है। कोलॉइड प्राप्त करने के अनेकों प्रकार हैं जैसे रासायनिक विधि, वैद्युत विघटन और पेस्टाइजेशन। कोलॉइड विलयन बनाते समय, सामान्यतया आत्यधिक मात्रा में वैद्युत अपघटय और घुलनशील अशुद्धियाँ पायी जाती है। अशुद्धियों की मात्रा को कम करने की विधि को कोलॉइड विलयन का शुद्धिकरण या शोधन कहते हैं। कोलॉइड विलयन को विभिन्न विधियों से शोधन किया जाता है जैसे अपोहन, वैद्युत अपोहन, अतिसूक्ष्म निस्यंदन आदि। अणुसंख्य गुणधर्म, टिंडल प्रभाव, रंग, ब्राउनी गति आवेश कोलॉइड पर वैद्युत कण संचलन, स्कंदन आदि कोलॉइड के विभिन्न गुणों को प्रदर्शित करते हैं।

वैद्युत-अपघट्य की स्कंदन शक्ति को आरोही क्रम में सही विकल्प को पहचाने:

- A. $\text{NaCl} < \text{MgCl}_2 < \text{AlCl}_3$
- B. $\text{AlCl}_3 < \text{MgCl}_2 < \text{NaCl}$
- C. $\text{Na}_4[\text{Fe}(\text{CN})_6] < \text{Na}_3\text{PO}_4 < \text{NaCl} < \text{Na}_2\text{SO}_4$
- D. $\text{KCl} < \text{K}_3\text{PO}_4 < \text{K}_2\text{SO}_4 < \text{K}_4[\text{Fe}(\text{CN})_6]$
- E. $\text{KCl} < \text{K}_2\text{SO}_4 < \text{K}_3\text{PO}_4 < \text{K}_4[\text{Fe}(\text{CN})_6]$

नीचे दिए गए विकल्पों में से सही उत्तर का चयन कीजिए:

1. केवल B और D
2. केवल A, B, C
3. केवल C, D और E
4. केवल A, E

Options :

- 485584157833. 1
- 485584157834. 2
- 485584157835. 3
- 485584157836. 4

Question Number : 345 Question Id : 48558439460 Question Type : MCQ Option Shuffling : No Is Question Mandatory : No Calculator : None Response Time : N.A Think Time : N.A Minimum Instruction Time : 0

Correct Marks : 5 Wrong Marks : 1

Question Key Details :

Key	Value
Comprehension	Comp1

A colloid is a heterogeneous system in which one substance is dispersed as very fine particles in another substance called dispersion medium. Colloids are classified on the basis of physical state of dispersed phase and dispersion medium. Nature of interaction between dispersed phase and dispersion medium and types of particles of dispersed phase. There are various methods for the preparation of colloidal solutions such as chemical methods, electrical disintegration and peptization. Colloidal solutions when prepared, generally contain excessive amount of electrolytes, and some other soluble impurities. The process used for reducing the amount of impurities to a requisite minimum is known as purification of colloidal solution. Purification of colloidal solution is carried out by various methods such as Dialysis, Electrodialysis, Ultrafiltration etc. Colligative properties, Tyndall effect, colour, Brownian movement charge on colloidal particles, electrophoresis, coagulation are various properties exhibited by colloidal solution.

When FeCl_3 is added to excess of hot water:

1. A positively charged sol of hydrated Ferric oxide is formed due to adsorption of Fe^{3+} ions.
2. Negatively charged sol is obtained with adsorption of OH^- ions.
3. A negatively charged sol is formed due to adsorption of Fe^{3+} ions.
4. A positively charged sol is formed by the adsorption of OH^- ions.

Options :

- 485584157837. 1
- 485584157838. 2
- 485584157839. 3
- 485584157840. 4

Question Number : 345 Question Id : 48558439460 Question Type : MCQ Option Shuffling : No Is Question Mandatory : No Calculator : None Response Time : N.A Think Time : N.A Minimum Instruction Time : 0

Correct Marks : 5 Wrong Marks : 1

Question Key Details :

Key	Value
Comprehension	Comp1

कोलोइड एक विषमांगी तंत्र होता है जिसमें एक पदार्थ बहुत बारीक कणों के रूप में परिक्षिप्त प्रावस्था में एक दूसरे पदार्थ में परिक्षिप्त रहता है जिसे परिक्षिप्त माध्यम कहते हैं। कोलोइड का वर्गीकरण भौतिक अवस्था में परिक्षिप्त माध्यम में मिलने पर कणों की प्रकृति पर निर्भर करता है। कोलोइड प्राप्त करने के अनेकों प्रकार हैं जैसे रासायनिक विधि, वैद्युत विघटन और पेण्डुलेशन। कोलोइड विलयन बनाते समय, सामान्यतया अत्यधिक मात्रा में वैद्युत अपघटय और घुलनशील अशुद्धियाँ पायी जाती है। अशुद्धियों की मात्रा को कम करने की विधि को कोलोइड विलयन का शुद्धिकरण या शोधन कहते हैं। कोलोइड विलयन को विभिन्न विधियों से शोधन किया जाता है जैसे अपोहन, वैद्युत अपोहन, अतिसूक्ष्म निस्यंदन आदि। अणुसंख्य गुणधर्म, टिंडल प्रभाव, रंग, ब्राउनी गति आवेश कोलोइड पर वैद्युत कण संचलन, स्कंदन आदि कोलोइड के विभिन्न गुणों को प्रदर्शित करते हैं।

जब $FeCl_3$ को अत्यधिक गरम पानी में डालते है:

1. Fe^{3+} आयनों के अधिशोषण के कारण, जलयुक्त फेरिक ऑक्साइड का धनात्मक सॉल बनता है।
2. OH^- आयनों के अधिशोषण के कारण, ऋणात्मक सॉल बनता है।
3. Fe^{3+} आयनों के अधिशोषण के कारण, ऋणात्मक आवेश वाला सॉल बनता है।
4. OH^- आयनों के अधिशोषण के कारण, धनात्मक आवेश सॉल बनता है।

Options :

485584157837. 1
485584157838. 2
485584157839. 3
485584157840. 4

Sub-Section Number : 3
Sub-Section Id : 4855842914
Question Shuffling Allowed : No
Is Section Default? : null

Question Number : 346 Question Id : 48558439461 Question Type : MCQ Option Shuffling : No Is Question Mandatory : No Calculator : None Response Time : N.A Think Time : N.A Minimum Instruction Time : 0

Correct Marks : 5 Wrong Marks : 1

Question Key Details :

Key	Value
Comprehension	Comp2

James Watson and Francis Crick gave a double strand helix structure for DNA. Two Nucleic acid chains are wound about each other and held together by hydrogen bonds between pairs of bases. The two strands are complementary to each other because the hydrogen bonds are formed between specific pairs of bases. Adenine forms hydrogen bonds with thymine whereas cytosine forms hydrogen bonds with guanine.

Nucleic acids are known as the polymers of nucleotides and these nucleotides are joined together through phosphodiester linkage. Identify the correct sequence of attachment.

1. Phosphate - Sugar - base
2. Base - sugar - Base
3. Sugar - Base - Sugar
4. Phosphate - Base - phosphate

Options :

- 485584157841. 1
- 485584157842. 2
- 485584157843. 3
- 485584157844. 4

Question Number : 346 Question Id : 48558439461 Question Type : MCQ Option Shuffling : No Is Question Mandatory : No Calculator : None Response Time : N.A Think Time : N.A Minimum Instruction Time : 0

Correct Marks : 5 Wrong Marks : 1

Question Key Details :

Key	Value
Comprehension	Comp2

जेम्स वाटसन और फ्रांसिस क्रिक ने DNA की द्विकुंडलित आकृति दी थी। दो न्यूक्लीक अम्लों की श्रृंखला एक दूसरे में मरोड़ के द्वारा हाइड्रोजन बंध तथा क्षार के युग्म से पूरक के रूप में जुड़े होते हैं। दोनों कुंडलित आकृति एक दूसरे की पूरक है और हाइड्रोजन बंध बनाकर विशिष्ट क्षार युग्म से बनते हैं। एडिनीन हाइड्रोजन बंध से थायमीन के साथ बंध बनाता है जबकि साइटोसिन, केनाइन के साथ हाइड्रोजन बंध बनाता है।

न्यूक्लीक अम्ल को न्यूक्लिओटाइड के बहुलक के रूप में जानते है और यह न्यूक्लिओटाइड फास्फोराइएस्टर बंधन द्वारा आपस में जुड़े होते हैं। संलग्नता का सही क्रम पहचानिए।

1. फास्फेट - शर्कर - क्षार
2. क्षार - शर्कर - क्षार
3. शर्कर - क्षार - शर्कर
4. फास्फेट - क्षार - फास्फेट

Options :

- 485584157841. 1
- 485584157842. 2
- 485584157843. 3
- 485584157844. 4

Question Number : 347 Question Id : 48558439462 Question Type : MCQ Option Shuffling : No Is Question Mandatory : No Calculator : None Response Time : N.A Think Time : N.A Minimum Instruction Time : 0

Correct Marks : 5 Wrong Marks : 1

Question Key Details :

Key	Value
Comprehension	Comp2

James Watson and Francis Crick gave a double strand helix structure for DNA. Two Nucleic acid chains are wound about each other and held together by hydrogen bonds between pairs of bases. The two strands are complementary to each other because the hydrogen bonds are formed between specific pairs of bases. Adenine forms hydrogen bonds with thymine whereas cytosine forms hydrogen bonds with guanine.

Match List I with List II

LIST I		LIST II	
A.	Nucleic Acids	I.	Phosphodiester linkage
B.	Nucleotides	II.	Base and Sugar
C.	Nucleosides	III.	Phosphoric acid
D.	Dinucleotide	IV.	Protein synthesis

Choose the correct answer from the options given below:

1. A-IV, B-III, C-II, D-I
2. A-III, B-IV, C-I, D-II
3. A-IV, B-II, C-I, D-III
4. A-III, B-II, C-I, D-IV

Options :

485584157845. 1
485584157846. 2
485584157847. 3
485584157848. 4

Question Number : 347 Question Id : 48558439462 Question Type : MCQ Option Shuffling : No Is Question Mandatory : No Calculator : None Response Time : N.A Think Time : N.A Minimum Instruction Time : 0

Correct Marks : 5 Wrong Marks : 1

Question Key Details :

Key	Value
Comprehension	Comp2

जेम्स वाटसन और फ्रांसिस क्रिक ने DNA की द्विकुंडलित आकृति दी थी। दो न्यूक्लिक अम्लों की श्रृंखला एक दूसरे में मरोड़ के द्वारा हाइड्रोजन बंध तथा क्षार के युग्म से पूरक के रूप में जुड़े होते हैं। दोनों कुंडलित आकृति एक दूसरे की पूरक है और हाइड्रोजन बंध बनाकर विशिष्ट क्षार युग्म से बनते हैं। एडिनीन हाइड्रोजन बंध से थायमीन के साथ बंध बनाता है जबकि साइटोसिन, केनाइन के साथ हाइड्रोजन बंध बनाता है।

सूची I का सूची II से मिलान कीजिए

सूची I		सूची II	
A.	न्यूक्लिक अम्ल	I.	फास्फोडाईएस्टर बंध
B.	न्यूक्लिओटाइड	II.	क्षार तथा शर्कर
C.	न्यूक्लिओसाइड	III.	फास्फोरिक अम्ल
D.	डाई न्यूक्लिओटाइड	IV.	प्रोटीन संश्लेषण

निम्नलिखित विकल्पों में से सही उत्तर का चयन कीजिए :

1. A-IV, B-III, C-II, D-I
2. A-III, B-IV, C-I, D-II
3. A-IV, B-II, C-I, D-III
4. A-III, B-II, C-I, D-IV

Options :

485584157845. 1
485584157846. 2
485584157847. 3
485584157848. 4

Question Number : 348 Question Id : 48558439463 Question Type : MCQ Option Shuffling : No Is Question Mandatory : No Calculator : None Response Time : N.A Think Time : N.A Minimum Instruction Time : 0

Correct Marks : 5 Wrong Marks : 1

Question Key Details :

Key	Value
Comprehension	Comp2

James Watson and Francis Crick gave a double strand helix structure for DNA. Two Nucleic acid chains are wound about each other and held together by hydrogen bonds between pairs of bases. The two strands are complementary to each other because the hydrogen bonds are formed between specific pairs of bases. Adenine forms hydrogen bonds with thymine whereas cytosine forms hydrogen bonds with guanine.

The sugar component in RNA molecule is _____.

1. β - D - Glucose
2. D - Glucose
3. β - D - Ribose
4. D - Ribose

Options :

485584157849. 1
485584157850. 2
485584157851. 3
485584157852. 4

Question Number : 348 Question Id : 48558439463 Question Type : MCQ Option Shuffling : No Is Question Mandatory : No Calculator : None Response Time : N.A Think Time : N.A Minimum Instruction Time : 0

Correct Marks : 5 Wrong Marks : 1

Question Key Details :

Key	Value
Comprehension	Comp2

जेम्स वाटसन और फ्रांसिस क्रिक ने DNA की द्विकुंडलित आकृति दी थी। दो न्यूक्लीक अम्लों की श्रृंखला एक दूसरे में मरोड़ के द्वारा हाइड्रोजन बंध तथा क्षार के युग्म से पूरक के रूप में जुड़े होते हैं। दोनों कुंडलित आकृति एक दूसरे की पूरक है और हाइड्रोजन बंध बनाकर विशिष्ट क्षार युग्म से बनते हैं। एडिनीन हाइड्रोजन बंध से थायमीन के साथ बंध बनाता है जबकि साइटोसिन, केनाइन के साथ हाइड्रोजन बंध बनाता है।

RNA के अणु में शर्कर घटक है-

1. β - D - ग्लूकोस
2. D - ग्लूकोस
3. β - D - राइबोज
4. D - राइबोज

Options :

485584157849. 1
485584157850. 2
485584157851. 3
485584157852. 4

Question Number : 349 Question Id : 48558439464 Question Type : MCQ Option Shuffling : No Is Question Mandatory : No Calculator : None Response Time : N.A Think Time : N.A Minimum Instruction Time : 0

Correct Marks : 5 Wrong Marks : 1

Question Key Details :

Key	Value
Comprehension	Comp2

James Watson and Francis Crick gave a double strand helix structure for DNA. Two Nucleic acid chains are wound about each other and held together by hydrogen bonds between pairs of bases. The two strands are complementary to each other because the hydrogen bonds are formed between specific pairs of bases. Adenine forms hydrogen bonds with thymine whereas cytosine forms hydrogen bonds with guanine.

Nucleic acids have the coded message for the proteins to be synthesised in the cell. Protein synthesis takes place through a process known as:

1. Transcription
2. Translation
3. Protination
4. Protination

Options :

- 485584157853. 1
- 485584157854. 2
- 485584157855. 3
- 485584157856. 4

Question Number : 349 Question Id : 48558439464 Question Type : MCQ Option Shuffling : No Is Question Mandatory : No Calculator : None Response Time : N.A Think Time : N.A Minimum Instruction Time : 0

Correct Marks : 5 Wrong Marks : 1

Question Key Details :

Key	Value
Comprehension	Comp2

जेम्स वाटसन और फ्रांसिस क्रिक ने DNA की द्विकुंडलित आकृति दी थी। दो न्यूक्लीक अम्लों की श्रृंखला एक दूसरे में मरोड़ के द्वारा हाइड्रोजन बंध तथा क्षार के युग्म से पूरक के रूप में जुड़े होते हैं। दोनों कुंडलित आकृति एक दूसरे की पूरक है और हाइड्रोजन बंध बनाकर विशिष्ट क्षार युग्म से बनते हैं। एडिनीन हाइड्रोजन बंध से थायमीन के साथ बंध बनाता है जबकि साइटोसिन, केनाइन के साथ हाइड्रोजन बंध बनाता है।

न्यूक्लीक अम्ल में एक कोशिका में बनने वाली प्रोटीन की सूचना छिपी होती है। प्रोटीन का निर्माण जिस विधि से होता है उसे कहते हैं:

1. अनुलेखन
2. अनुवादीकरण (ट्रांसलेशन)
3. प्रोटोनीकरण
4. प्रोटीनीकरण

Options :

- 485584157853. 1
- 485584157854. 2
- 485584157855. 3
- 485584157856. 4

Question Number : 350 Question Id : 48558439465 Question Type : MCQ Option Shuffling : No Is Question Mandatory : No Calculator : None Response Time : N.A Think Time : N.A Minimum Instruction Time : 0

Correct Marks : 5 Wrong Marks : 1

Question Key Details :

Key	Value
Comprehension	Comp2

James Watson and Francis Crick gave a double strand helix structure for DNA. Two Nucleic acid chains are wound about each other and held together by hydrogen bonds between pairs of bases. The two strands are complementary to each other because the hydrogen bonds are formed between specific pairs of bases. Adenine forms hydrogen bonds with thymine whereas cytosine forms hydrogen bonds with guanine.

Some of the drugs are considered very harmful and are known to affect Nucleic acids RNA and DNA. Out of the following, which one is known to be banned?

1. Penicillin
2. Codeine
3. Aspirin
4. Phenacetin

Options :

- 485584157857. 1
- 485584157858. 2
- 485584157859. 3
- 485584157860. 4

Question Number : 350 Question Id : 48558439465 Question Type : MCQ Option Shuffling : No Is Question Mandatory : No Calculator : None Response Time : N.A Think Time : N.A Minimum Instruction Time : 0

Correct Marks : 5 Wrong Marks : 1

Question Key Details :

Key	Value
Comprehension	Comp2

जेम्स वाटसन और फ्रांसिस क्रिक ने DNA की द्विकुंडलित आकृति दी थी। दो न्यूक्लिक अम्लों की श्रृंखला एक दूसरे में मरोड़ के द्वारा हाइड्रोजन बंध तथा क्षार के युग्म से पूरक के रूप में जुड़े होते हैं। दोनों कुंडलित आकृति एक दूसरे की पूरक है और हाइड्रोजन बंध बनाकर विशिष्ट क्षार युग्म से बनते हैं। एडिनीन हाइड्रोजन बंध से थायमीन के साथ बंध बनाता है जबकि साइटोसिन, केनाइन के साथ हाइड्रोजन बंध बनाता है।

कुछ औषध न्यूक्लिक अम्ल RNA और DNA हानिकारक प्रभाव के लिए जानी जाती हैं। निम्नलिखित में कौन सी औषध प्रतिबंधित है?

1. पेनिसिलीन
2. कोडीन
3. एस्पिरिन
4. फेनासिटीन

Options :

- 485584157857. 1
- 485584157858. 2
- 485584157859. 3
- 485584157860. 4

Comp Sci or IP

Group Number :	9
Group Id :	485584890
Group Maximum Duration :	60
Group Minimum Duration :	60
Show Attended Group? :	No
Edit Attended Group? :	No
Break time :	0
Group Marks :	200
Is this Group for Examiner? :	No
Examiner permission :	Cant View
Show Progress Bar? :	No

Compulsory

Section Id :	4855841030
Section Number :	1
Section type :	Online
Mandatory or Optional :	Mandatory
Number of Questions :	15
Number of Questions to be attempted :	15
Section Marks :	75
Enable Mark as Answered Mark for Review and Clear Response :	Yes
Maximum Instruction Time :	0
Sub-Section Number :	1
Sub-Section Id :	4855842915
Question Shuffling Allowed :	Yes
Is Section Default? :	null

Question Number : 351 Question Id : 48558438066 Question Type : MCQ Option Shuffling : No Is Question Mandatory : No Calculator : None
Response Time : N.A Think Time : N.A Minimum Instruction Time : 0

Correct Marks : 5 Wrong Marks : 1

Question Key Details :

Key	Value
Comprehension	MCQ1

Which method is used to write multiple strings to a file?

1. write()
2. writelines()
3. writeline()
4. writes()

Options :

- 485584152261. 1
- 485584152262. 2
- 485584152263. 3
- 485584152264. 4

Question Number : 351 Question Id : 48558438066 Question Type : MCQ Option Shuffling : No Is Question Mandatory : No Calculator : None
Response Time : N.A Think Time : N.A Minimum Instruction Time : 0

Correct Marks : 5 Wrong Marks : 1

Question Key Details :

Key	Value
Comprehension	MCQ1

एक फाइल में एक से अधिक स्ट्रिंग्स लिखने के लिए किस विधि का प्रयोग किया जाता है?

1. write()
2. writelines()
3. writeline()
4. writes()

Options :

- 485584152261. 1
- 485584152262. 2
- 485584152263. 3
- 485584152264. 4

Question Number : 352 Question Id : 48558438067 Question Type : MCQ Option Shuffling : No Is Question Mandatory : No Calculator : None Response Time : N.A Think Time : N.A Minimum Instruction Time : 0

Correct Marks : 5 Wrong Marks : 1

Question Key Details :

Key	Value
Comprehension	MCQ1

<at> opens the file in _____ and _____ mode.

1. append, read
2. append, write
3. read, write
4. binary mode, read

Options :

- 485584152265. 1
- 485584152266. 2
- 485584152267. 3
- 485584152268. 4

Question Number : 352 Question Id : 48558438067 Question Type : MCQ Option Shuffling : No Is Question Mandatory : No Calculator : None Response Time : N.A Think Time : N.A Minimum Instruction Time : 0

Correct Marks : 5 Wrong Marks : 1

Question Key Details :

Key	Value
Comprehension	MCQ1

<a+> फाइल को _____ और _____ मोड में खोलता है।

1. append, read
2. append, write
3. read, write
4. binary mode, read

Options :

- 485584152265. 1
- 485584152266. 2
- 485584152267. 3
- 485584152268. 4

Question Number : 353 Question Id : 48558438068 Question Type : MCQ Option Shuffling : No Is Question Mandatory : No Calculator : None
Response Time : N.A Think Time : N.A Minimum Instruction Time : 0

Correct Marks : 5 Wrong Marks : 1

Question Key Details :

Key	Value
Comprehension	MCQ1

The file offset position in <wb+> file mode is _____

1. middle of the file
2. end of the file
3. beginning of the file
4. current position

Options :

- 485584152269. 1
- 485584152270. 2
- 485584152271. 3
- 485584152272. 4

Question Number : 353 Question Id : 48558438068 Question Type : MCQ Option Shuffling : No Is Question Mandatory : No Calculator : None
Response Time : N.A Think Time : N.A Minimum Instruction Time : 0

Correct Marks : 5 Wrong Marks : 1

Question Key Details :

Key	Value
Comprehension	MCQ1

<wb+> फाइल मोड में फाइल ऑफ़सेट स्थिति (पोजिशन) _____ होती है

1. फाइल के मध्य में
2. फाइल के अंत में
3. फाइल के शुरुआत में
4. वर्तमान स्थिति में

Options :

- 485584152269. 1
- 485584152270. 2
- 485584152271. 3
- 485584152272. 4

Question Number : 354 Question Id : 48558438069 Question Type : MCQ Option Shuffling : No Is Question Mandatory : No Calculator : None
Response Time : N.A Think Time : N.A Minimum Instruction Time : 0

Correct Marks : 5 Wrong Marks : 1

Question Key Details :

Key	Value
Comprehension	MCQ1

Which of the following statement is not true?

1. Traditional file system increases data redundancy
2. Meta data is data about data
3. Number of rows in a relation called Degree of a relation
4. Candidate Key can be a Primary Key

Options :

485584152273. 1
 485584152274. 2
 485584152275. 3
 485584152276. 4

Question Number : 354 Question Id : 48558438069 Question Type : MCQ Option Shuffling : No Is Question Mandatory : No Calculator : None Response Time : N.A Think Time : N.A Minimum Instruction Time : 0

Correct Marks : 5 Wrong Marks : 1

Question Key Details :

Key	Value
Comprehension	MCQ1

निम्नलिखित में से कौन-सा कथन सही नहीं है?

1. पारंपारिक फाइल सिस्टम डेटा रिडन्डेंसी को बढ़ाता है।
2. मेटा डेटा, डेटा के बारे में डेटा है।
3. किसी रिलेशन में पंक्तियों की संख्या को रिलेशन की डिग्री कहा जाता है।
4. उम्मीदवार (कैंडीडेट) की प्राइमरी की हो सकती है।

Options :

485584152273. 1
 485584152274. 2
 485584152275. 3
 485584152276. 4

Question Number : 355 Question Id : 48558438070 Question Type : MCQ Option Shuffling : No Is Question Mandatory : No Calculator : None Response Time : N.A Think Time : N.A Minimum Instruction Time : 0

Correct Marks : 5 Wrong Marks : 1

Question Key Details :

Key	Value
Comprehension	MCQ1

Consider the following table -

SID	SName	Contact No	Age	Course	Year
2301	Rajat	8167782923	20	CS	2022
2302	Kamal	8168842399	21	HIS	2023
2303	Amit	8167832455	20	ECO	2022
2304	Sujata	7987235422	20	MATH	2022
2305	Amita	6276542311	21	ENG	2023

Identify the correct pair of values:

1. Degree = 5; No. of tuples = 6
2. Cardinality = 6; Degree = 5
3. Degree = 5; Cardinality = 5
4. Degree = 6; Cardinality = 5

Options :

485584152277. 1
 485584152278. 2
 485584152279. 3
 485584152280. 4

Question Number : 355 Question Id : 48558438070 Question Type : MCQ Option Shuffling : No Is Question Mandatory : No Calculator : None
Response Time : N.A Think Time : N.A Minimum Instruction Time : 0

Correct Marks : 5 Wrong Marks : 1

Question Key Details :

Key	Value
Comprehension	MCQ1

निम्न तालिका पर विचार करें.

SID	SName	Contact No	Age	Course	Year
2301	Rajat	8167782923	0	CS	2022
2302	Kamal	8168842399	21	HIS	2023
2303	Amit	8167832455	20	ECO	2022
2304	Sujata	7987235422	20	MATH	2022
2305	Amita	6276542311	21	ENG	2023

मानों के सही युग्म की पहचान करें:

- डिग्री = 5; टपल्स की संख्या = 6
- कार्डिनियलिटी = 6; डिग्री = 5
- डिग्री = 5; कार्डिनियलिटी = 5
- डिग्री = 6; कार्डिनियलिटी = 5

Options :

485584152277. 1
485584152278. 2
485584152279. 3
485584152280. 4

Question Number : 356 Question Id : 48558438071 Question Type : MCQ Option Shuffling : No Is Question Mandatory : No Calculator : None
Response Time : N.A Think Time : N.A Minimum Instruction Time : 0

Correct Marks : 5 Wrong Marks : 1

Question Key Details :

Key	Value
Comprehension	MCQ1

Which of the following is the limitation of DBMS.

- Data Consistency
- Increased Complexity
- Controlled Data redundancy
- Data Independency

Options :

485584152281. 1
485584152282. 2
485584152283. 3
485584152284. 4

Question Number : 356 Question Id : 48558438071 Question Type : MCQ Option Shuffling : No Is Question Mandatory : No Calculator : None
Response Time : N.A Think Time : N.A Minimum Instruction Time : 0

Correct Marks : 5 Wrong Marks : 1

Question Key Details :

Key	Value
Comprehension	MCQ1

निम्नलिखित में से कौन-सी DBMS की सीमा है।

1. डेटा कन्सिस्टेन्सी
2. बढ़ी हुई जटिलता
3. कंट्रोल डेटा रिडन्डेन्सी
4. डेटा स्वतंत्रता

Options :

485584152281. 1
485584152282. 2
485584152283. 3
485584152284. 4

Question Number : 357 Question Id : 48558438072 Question Type : MCQ Option Shuffling : No Is Question Mandatory : No Calculator : None Response Time : N.A Think Time : N.A Minimum Instruction Time : 0

Correct Marks : 5 Wrong Marks : 1

Question Key Details :

Key	Value
Comprehension	MCQ1

Match List I with List II

LIST I		LIST II	
A	DML	I	Not NULL
B	Primary Key	II	Create relations
C	Alter table	III	Insert records
D	DDL	IV	Add attribute

Choose the correct answer from the options given below:

1. A-IV, B-II, C-III, D-I
2. A-I, B-II, C-III, D-IV
3. A-III, B-I, C-IV, D-II
4. A-II, B-III, C-IV, D-I

Options :

485584152285. 1
485584152286. 2
485584152287. 3
485584152288. 4

Question Number : 357 Question Id : 48558438072 Question Type : MCQ Option Shuffling : No Is Question Mandatory : No Calculator : None Response Time : N.A Think Time : N.A Minimum Instruction Time : 0

Correct Marks : 5 Wrong Marks : 1

Question Key Details :

Key	Value
Comprehension	MCQ1

सूची I का सूची II से मिलान कीजिए

सूची I		सूची II	
A.	DML (डीएमएल)	I.	Not NULL
B.	प्राइमरी की	II.	relations को बनाना
C.	ऑल्टर टेबल	III.	records को डालना
D.	DDL (डीडीएल)	IV.	attribute जोड़ना

निम्नलिखित विकल्पों में से सही उत्तर का चयन कीजिए :

1. A-IV, B-II, C-III, D-I
2. A-I, B-II, C-III, D-IV
3. A-III, B-I, C-IV, D-II
4. A-II, B-III, C-IV, D-I

Options :

485584152285. 1
485584152286. 2
485584152287. 3
485584152288. 4

Question Number : 358 Question Id : 48558438073 Question Type : MCQ Option Shuffling : No Is Question Mandatory : No Calculator : None Response Time : N.A Think Time : N.A Minimum Instruction Time : 0

Correct Marks : 5 Wrong Marks : 1

Question Key Details :

Key	Value
Comprehension	MCQ1

A row in a table is called _____

1. Cardinality
2. Primary Key
3. Tuple
4. Attribute

Options :

485584152289. 1
485584152290. 2
485584152291. 3
485584152292. 4

Question Number : 358 Question Id : 48558438073 Question Type : MCQ Option Shuffling : No Is Question Mandatory : No Calculator : None Response Time : N.A Think Time : N.A Minimum Instruction Time : 0

Correct Marks : 5 Wrong Marks : 1

Question Key Details :

Key	Value
Comprehension	MCQ1

तालिका में पंक्ति को _____ कहा जाता है।

1. कार्डिनियलिटी
2. प्राइमरी की
3. दपल
4. एट्रीब्यूट

Options :

- 485584152289. 1
- 485584152290. 2
- 485584152291. 3
- 485584152292. 4

Question Number : 359 Question Id : 48558438074 Question Type : MCQ Option Shuffling : No Is Question Mandatory : No Calculator : None Response Time : N.A Think Time : N.A Minimum Instruction Time : 0

Correct Marks : 5 Wrong Marks : 1

Question Key Details :

Key	Value
Comprehension	MCQ1

What is the output of the following SQL query?

`SELECT * FROM STUDENTS WHERE SName like '%S' and age > 18;`

1. Selects details of all those students whose name ends with 'S' and age greater than 18
2. Selects details of all those students whose name starts with 'S' and age is greater than 18
3. Selects details of all those students whose name starts and ends with 'S' and age is greater than 18
4. Selects details of all those students whose name starts with 'S' or age greater than 18

Options :

- 485584152293. 1
- 485584152294. 2
- 485584152295. 3
- 485584152296. 4

Question Number : 359 Question Id : 48558438074 Question Type : MCQ Option Shuffling : No Is Question Mandatory : No Calculator : None Response Time : N.A Think Time : N.A Minimum Instruction Time : 0

Correct Marks : 5 Wrong Marks : 1

Question Key Details :

Key	Value
Comprehension	MCQ1

निम्नलिखित SQL क्वेरी का आउटपुट क्या है ?

`SELECT * FROM STUDENTS WHERE SName like '%S' and age > 18;`

1. उन सभी स्टूडेंट्स की डिटेल्स सलेक्ट करेगा जिनके नाम 'S' से अन्त होते हैं, और आयु 18 वर्ष से अधिक है।
2. उन सभी स्टूडेंट्स की डिटेल्स सलेक्ट करेगा जिनके नाम 'S' से शुरू होते हैं, और आयु 18 वर्ष से अधिक है।
3. उन सभी स्टूडेंट्स की डिटेल्स सलेक्ट करेगा, जिनके नाम 'S' से शुरू तथा 'S' से अन्त होते हैं और आयु 18 वर्ष से अधिक है।
4. उन सभी स्टूडेंट्स की डिटेल्स सलेक्ट करेगा जिनका नाम 'S' से शुरू होता है या आयु 18 वर्ष से अधिक है।

Options :

485584152293. 1
 485584152294. 2
 485584152295. 3
 485584152296. 4

Question Number : 360 Question Id : 48558438075 Question Type : MCQ Option Shuffling : No Is Question Mandatory : No Calculator : None Response Time : N.A Think Time : N.A Minimum Instruction Time : 0

Correct Marks : 5 Wrong Marks : 1

Question Key Details :

Key	Value
Comprehension	MCQ1

Let us consider two relations Student and Major as shown in Table 1 and Table 2 respectively.

Table 1: Student

Sr.No.	Name	Course
1.	Aman	C.S.
2.	Ravi	ECO
3.	Mohit	HIS
4.	Sanjay	MATH

Table 2: Major

Sr.No.	Name	Course
1.	Sanjay	MATH
2.	Abhay	ENG
3.	Sita	HINDI
4.	Aman	CS
5.	Ravi	ECO

How many Tuples will be in the result table after Student U Major operation.

1. 9
 2. 8
 3. 20
 4. 6

Options :

485584152297. 1
 485584152298. 2
 485584152299. 3
 485584152300. 4

Question Number : 360 Question Id : 48558438075 Question Type : MCQ Option Shuffling : No Is Question Mandatory : No Calculator : None Response Time : N.A Think Time : N.A Minimum Instruction Time : 0

Correct Marks : 5 Wrong Marks : 1

Question Key Details :

Key	Value
Comprehension	MCQ1

आइए हम दो रिलेशनो Student और Major पर विचार करें जैसा कि क्रमशः तालिका 1 और तालिका 2 में दिखाया गया है।

Table 1: Student

Sr.No.	Name	Course
1.	Aman	C.S
2.	Ravi	ECO
3.	Mohu	HIS
4.	Sanjay	MATH

Table 2: Major

Sr.No.	Name	Course
1.	Sanjay	MATH
2.	Abhay	ENG
3.	Sita	HINDI
4.	Aman	CS
5.	Ravi	ECO

Student U Major ऑपरेशन के बाद परिणाम तालिका में कितने टपल्स होंगे।

1. 9
2. 8
3. 20
4. 6

Options :

485584152297. 1
485584152298. 2
485584152299. 3
485584152300. 4

Question Number : 361 Question Id : 48558438076 Question Type : MCQ Option Shuffling : No Is Question Mandatory : No Calculator : None Response Time : N.A Think Time : N.A Minimum Instruction Time : 0

Correct Marks : 5 Wrong Marks : 1

Question Key Details :

Key	Value
Comprehension	MCQ1

Which of the following statements is/are true?

- A. Group by function is used to group rows of a table that contain same values in a specified column.
- B. The BETWEEN operator used for pattern matching
- C. The IN operator selects values that match any value in the given list of values
- D. COUNT, MAX, MIN, AVG and SUM are multiple row functions work on a set of records and return a single value
- E. Update table is used to change the data in a table

Choose the correct answer from the options given below:

- 1. A, C, D and E only
- 2. A, B, C and D only
- 3. B, C, D and E only
- 4. A, B, D, and E only

Options :

- 485584152301. 1
- 485584152302. 2
- 485584152303. 3
- 485584152304. 4

Question Number : 361 Question Id : 48558438076 Question Type : MCQ Option Shuffling : No Is Question Mandatory : No Calculator : None Response Time : N.A Think Time : N.A Minimum Instruction Time : 0

Correct Marks : 5 Wrong Marks : 1

Question Key Details :

Key	Value
Comprehension	MCQ1

निम्नलिखित में से कौन सा कथन सही है/हैं?

- A. Group by फंक्शन का उपयोग तालिका की पंक्तियों को समूहित करने के लिए किया जाता है जो एक निर्दिष्ट कॉलम में समान मान रखता है।
- B. BETWEEN ऑपरेटर का उपयोग पैटर्न मैचिंग के लिए किया जाता है।
- C. IN ऑपरेटर उन नियमों का चयन करता है जो मानों की दी गई सूची में किसी मान से मेल खाता हो
- D. COUNT, MAX, MIN, AVG और SUM मल्टीपल पंक्ति फंक्शन है जो रिकॉर्ड के सेट पर कार्य करते हैं और एक एकल मान रिटर्न करते हैं।
- E. Update table का उपयोग टेबल में बदलाव के लिए किया जाता है।

नीचे दिए गए विकल्पों में से सही उत्तर का चयन कीजिए:

- 1. केवल A, C, D और E
- 2. केवल A, B, C और D
- 3. केवल B, C, D और E
- 4. केवल A, B, D और E

Options :

- 485584152301. 1
- 485584152302. 2
- 485584152303. 3
- 485584152304. 4

Question Number : 362 Question Id : 48558438077 Question Type : MCQ Option Shuffling : No Is Question Mandatory : No Calculator : None Response Time : N.A Think Time : N.A Minimum Instruction Time : 0

Correct Marks : 5 Wrong Marks : 1

Question Key Details :

Key	Value
Comprehension	MCQ1

Which of the following address is associated with a network adapter (NIC)

1. IP address
2. Port address
3. MAC address
4. URL

Options :

- 485584152305. 1
- 485584152306. 2
- 485584152307. 3
- 485584152308. 4

Question Number : 362 Question Id : 48558438077 Question Type : MCQ Option Shuffling : No Is Question Mandatory : No Calculator : None Response Time : N.A Think Time : N.A Minimum Instruction Time : 0

Correct Marks : 5 Wrong Marks : 1

Question Key Details :

Key	Value
Comprehension	MCQ1

निम्नलिखित में से कौन सा पता नेटवर्क एडेप्टर (NIC) से जुड़ा है

1. आईपी एड्रेस
2. पोर्ट एड्रेस
3. मैक एड्रेस
4. URL (यू. आर. एल.)

Options :

- 485584152305. 1
- 485584152306. 2
- 485584152307. 3
- 485584152308. 4

Question Number : 363 Question Id : 48558438078 Question Type : MCQ Option Shuffling : No Is Question Mandatory : No Calculator : None Response Time : N.A Think Time : N.A Minimum Instruction Time : 0

Correct Marks : 5 Wrong Marks : 1

Question Key Details :

Key	Value
Comprehension	MCQ1

Which device maintains a database of domain names and their corresponding IP addresses.

1. HTTP server
2. DNS server
3. Router
4. Gateway

Options :

- 485584152309. 1
- 485584152310. 2
- 485584152311. 3

Question Number : 363 Question Id : 48558438078 Question Type : MCQ Option Shuffling : No Is Question Mandatory : No Calculator : None
Response Time : N.A Think Time : N.A Minimum Instruction Time : 0

Correct Marks : 5 Wrong Marks : 1

Question Key Details :

Key	Value
Comprehension	MCQ1

कौन सा डिवाइस डोमेन नेम और उनसे संबंधित IP एड्रेस पते का डेटा बेस रखता है।

1. एचटीटीपी सर्वर
2. डीएनएस सर्वर
3. राउटर
4. गेटवे

Options :

485584152309. 1
485584152310. 2
485584152311. 3
485584152312. 4

Question Number : 364 Question Id : 48558438079 Question Type : MCQ Option Shuffling : No Is Question Mandatory : No Calculator : None
Response Time : N.A Think Time : N.A Minimum Instruction Time : 0

Correct Marks : 5 Wrong Marks : 1

Question Key Details :

Key	Value
Comprehension	MCQ1

Match List I with List II

LIST I		LIST II	
A.	MAC address	I.	32 bits
B.	RJ-45	II.	NIC card
C.	IP address	III.	48 bits
D.	Ethernet card	IV.	Ethernet cables

Choose the correct answer from the options given below:

1. A-III, B-I, C-II, D-IV
2. A-III, B-II, C-I, D-IV
3. A-I, B-II, C-IV, D-III
4. A-III, B-IV, C-I, D-II

Options :

485584152313. 1
485584152314. 2
485584152315. 3
485584152316. 4

Question Number : 364 Question Id : 48558438079 Question Type : MCQ Option Shuffling : No Is Question Mandatory : No Calculator : None
Response Time : N.A Think Time : N.A Minimum Instruction Time : 0

Correct Marks : 5 Wrong Marks : 1

Question Key Details :

Key	Value
Comprehension	MCQ1

सूची I का सूची II से मिलान कीजिए

सूची I	सूची II
A. निक एड्रेस	I. 32 बिट्स
B. आर. जे. 45	II. NIC (एन आई सी) कार्ड
C. IP (आई पी) एड्रेस	III. 48 बिट्स
D. इथरनेट कार्ड	IV. इथरनेट केबल

निम्नलिखित विकल्पों में से सही उत्तर का चयन कीजिए :

1. A-III, B-I, C-II, D-IV
2. A-III, B-II, C-I, D-IV
3. A-I, B-II, C-IV, D-III
4. A-III, B-IV, C-I, D-II

Options :

485584152313. 1
485584152314. 2
485584152315. 3
485584152316. 4

Question Number : 365 Question Id : 48558438080 Question Type : MCQ Option Shuffling : No Is Question Mandatory : No Calculator : None Response Time : N.A Think Time : N.A Minimum Instruction Time : 0

Correct Marks : 5 Wrong Marks : 1

Question Key Details :

Key	Value
Comprehension	MCQ1

_____ is a unique address that can be used to uniquely identify each node in the network.

1. MAC address
2. IP address
3. URL
4. WWW

Options :

485584152317. 1
485584152318. 2
485584152319. 3
485584152320. 4

Question Number : 365 Question Id : 48558438080 Question Type : MCQ Option Shuffling : No Is Question Mandatory : No Calculator : None Response Time : N.A Think Time : N.A Minimum Instruction Time : 0

Correct Marks : 5 Wrong Marks : 1

Question Key Details :

Key	Value
Comprehension	MCQ1

_____ एक यूनिफ़ॉर्म एड्रेस है जिसका उपयोग नेटवर्क में प्रत्येक नोड की विशिष्ट रूप से पहचानने के लिए किया जा सकता है

1. मैक एड्रेस
2. आई पी एड्रेस
3. यूआरएल
4. WWW

Options :

485584152317. 1
485584152318. 2
485584152319. 3
485584152320. 4

Computer Science

Section Id :	4855841031
Section Number :	2
Section type :	Online
Mandatory or Optional :	Optional
Number of Questions :	35
Number of Questions to be attempted :	25
Section Marks :	125
Enable Mark as Answered Mark for Review and Clear Response :	Yes
Maximum Instruction Time :	0
Sub-Section Number :	1
Sub-Section Id :	4855842916
Question Shuffling Allowed :	Yes
Is Section Default? :	null

Question Number : 366 Question Id : 48558438081 Question Type : MCQ Option Shuffling : No Is Question Mandatory : No Calculator : None Response Time : N.A Think Time : N.A Minimum Instruction Time : 0

Correct Marks : 5 Wrong Marks : 1

Question Key Details :

Key	Value
Comprehension	MCQ2

In which file mode/modes the file offset position will be at the end of file.

- A. <a+>
- B. <w>
- C. <f>
- D. <a>
- E. <+>

Choose the correct answer from the options given below:

1. A and D only
2. B and C only
3. C and E only
4. B and D only

Options :

485584152321. 1
485584152322. 2
485584152323. 3

485584152324. 4

Question Number : 366 Question Id : 48558438081 Question Type : MCQ Option Shuffling : No Is Question Mandatory : No Calculator : None
Response Time : N.A Think Time : N.A Minimum Instruction Time : 0

Correct Marks : 5 Wrong Marks : 1

Question Key Details :

Key	Value
Comprehension	MCQ2

फाइल के अंत में फाइल ऑफसेट की पोजिशन किस फाइल मोड/ मोड्स में होगी

- A. <a+>
- B. <w>
- C. <i>
- D. <a>
- E. <i+>

नीचे दिए गए विकल्पों में से सही उत्तर का चयन कीजिए:

- 1. केवल A और D
- 2. केवल B और C
- 3. केवल C और E
- 4. केवल B और D

Options :

- 485584152321. 1
- 485584152322. 2
- 485584152323. 3
- 485584152324. 4

Question Number : 367 Question Id : 48558438082 Question Type : MCQ Option Shuffling : No Is Question Mandatory : No Calculator : None
Response Time : N.A Think Time : N.A Minimum Instruction Time : 0

Correct Marks : 5 Wrong Marks : 1

Question Key Details :

Key	Value
Comprehension	MCQ2

What kind of build in exception will show by the following code?

```
str = 'Today is holiday'
```

```
print (str[20])
```

- 1. NameError
- 2. IndentationError
- 3. IndexError
- 4. TypeError

Options :

- 485584152325. 1
- 485584152326. 2
- 485584152327. 3
- 485584152328. 4

Question Number : 367 Question Id : 48558438082 Question Type : MCQ Option Shuffling : No Is Question Mandatory : No Calculator : None
Response Time : N.A Think Time : N.A Minimum Instruction Time : 0

Correct Marks : 5 Wrong Marks : 1

Question Key Details :

Key	Value
Comprehension	MCQ2

निम्नलिखित कोड द्वारा अपवाद में किस प्रकार का निर्माण दिखाया जाएगा?

```
str = 'Today is holiday'
```

```
print (str[20])
```

1. NameError
2. IndentationError
3. IndexError
4. TypeError

Options :

- 485584152325. 1
- 485584152326. 2
- 485584152327. 3
- 485584152328. 4

Question Number : 368 Question Id : 48558438083 Question Type : MCQ Option Shuffling : No Is Question Mandatory : No Calculator : None Response Time : N.A Think Time : N.A Minimum Instruction Time : 0

Correct Marks : 5 Wrong Marks : 1

Question Key Details :

Key	Value
Comprehension	MCQ2

You try to pop an element from a stack which is empty. This can result into a special kind of condition, which is known as _____.

1. Overflow
2. Underflow
3. Full flow
4. Full stack

Options :

- 485584152329. 1
- 485584152330. 2
- 485584152331. 3
- 485584152332. 4

Question Number : 368 Question Id : 48558438083 Question Type : MCQ Option Shuffling : No Is Question Mandatory : No Calculator : None Response Time : N.A Think Time : N.A Minimum Instruction Time : 0

Correct Marks : 5 Wrong Marks : 1

Question Key Details :

Key	Value
Comprehension	MCQ2

आप एक तत्व को एक स्टैक से पॉप करने का प्रयास करते हैं जो खाली है। इसका परिणाम एक विशेष प्रकार की स्थिति में हो सकता है जिसे.....के रूप में जाना जाता है।

1. ओवरफ्लो
2. अंडरफ्लो
3. फुलफ्लो
4. फुल स्टैक

Options :

- 485584152329. 1
- 485584152330. 2
- 485584152331. 3
- 485584152332. 4

Question Number : 369 Question Id : 48558438084 Question Type : MCQ Option Shuffling : No Is Question Mandatory : No Calculator : None Response Time : N.A Think Time : N.A Minimum Instruction Time : 0

Correct Marks : 5 Wrong Marks : 1

Question Key Details :

Key	Value
Comprehension	MCQ2

Which out of the following can be picked as the application of stack?

1. CPU allocation
2. Breadth first Traversal
3. Print command from multiple files from the same computer
4. Reversing of a string

Options :

- 485584152333. 1
- 485584152334. 2
- 485584152335. 3
- 485584152336. 4

Question Number : 369 Question Id : 48558438084 Question Type : MCQ Option Shuffling : No Is Question Mandatory : No Calculator : None Response Time : N.A Think Time : N.A Minimum Instruction Time : 0

Correct Marks : 5 Wrong Marks : 1

Question Key Details :

Key	Value
Comprehension	MCQ2

निम्नलिखित में से किस स्टैक के अनुप्रयोग के रूप में चुना जा सकता है?

1. CPU ऐलोकेशन
2. ब्रेड्थ फर्स्ट ट्रेवर्सल
3. कई फाइलों से एक ही कम्प्यूटर में प्रिंट कमांड
4. एक स्ट्रिंग का उलटना

Options :

- 485584152333. 1
- 485584152334. 2
- 485584152335. 3

485584152336. 4

Question Number : 370 Question Id : 48558438085 Question Type : MCQ Option Shuffling : No Is Question Mandatory : No Calculator : None
Response Time : N.A Think Time : N.A Minimum Instruction Time : 0

Correct Marks : 5 Wrong Marks : 1

Question Key Details :

Key	Value
Comprehension	MCQ2

Convert $A+(B^*C-(D/E \uparrow F)^*G)^*H$ into its equivalent postfix expression.

1. ABCDEFGH+*- /↑**
2. ABC*-DEF↑/G^*H^+
3. ABC^*DEF↑/G^*-H^+
4. ABC-DEF↑/G^*H^+

Options :

485584152337. 1
485584152338. 2
485584152339. 3
485584152340. 4

Question Number : 370 Question Id : 48558438085 Question Type : MCQ Option Shuffling : No Is Question Mandatory : No Calculator : None
Response Time : N.A Think Time : N.A Minimum Instruction Time : 0

Correct Marks : 5 Wrong Marks : 1

Question Key Details :

Key	Value
Comprehension	MCQ2

$A+(B^*C-(D/E \uparrow F)^*G)^*H$ को इसके समतुल्य पोस्टफिक्स एक्सप्रेशन में परिवर्तित कीजिए।

1. ABCDEFGH+*- /↑**
2. ABC*-DEF↑/G^*H^+
3. ABC^*DEF↑/G^*-H^+
4. ABC-DEF↑/G^*H^+

Options :

485584152337. 1
485584152338. 2
485584152339. 3
485584152340. 4

Question Number : 371 Question Id : 48558438086 Question Type : MCQ Option Shuffling : No Is Question Mandatory : No Calculator : None
Response Time : N.A Think Time : N.A Minimum Instruction Time : 0

Correct Marks : 5 Wrong Marks : 1

Question Key Details :

Key	Value
Comprehension	MCQ2

Which of the following is/are correct about double ended queue?

- A. Insertion and deletion operation perform only at rear side
- B. Insertion and deletion operation perform only at front end
- C. Insertion and deletion operation performs at both front and rear end
- D. Vehicles in a high-way toll tax booth are served following the principle of deque
- E. To implementation of deque used list data type in python

Choose the correct answer from the options given below:

- 1. A, B, C and D only
- 2. A, B, D and E only
- 3. C, D and E only
- 4. C and E only

Options :

- 485584152341. 1
- 485584152342. 2
- 485584152343. 3
- 485584152344. 4

Question Number : 371 Question Id : 48558438086 Question Type : MCQ Option Shuffling : No Is Question Mandatory : No Calculator : None Response Time : N.A Think Time : N.A Minimum Instruction Time : 0

Correct Marks : 5 Wrong Marks : 1

Question Key Details :

Key	Value
Comprehension	MCQ2

डबल इंडेड क्यू के बारे में कौन सा/से कथन सही है?

- A. इनसरसन एवं डिलीसन ऑपरेशन केवल पीछे से होता है।
- B. इनसरसन एवं डिलीसन ऑपरेशन केवल आगे से होता है।
- C. इनसरसन एवं डिलीसन ऑपरेशन आगे और पीछे दोनों से होता है।
- D. हाइवे टोल टेक्स बुथ में वाहनों को डीक्यू के सिद्धांत का पालन करते हुए सर्वड किया जाता है।
- E. पाइथन में लिस्ट डेटा टाइप का उपयोग डी-क्यू कार्यान्वयन के लिए किया जाता है।

नीचे दिए गए विकल्पों में से सही उत्तर का चयन कीजिए :

- 1. केवल A, B, C और D
- 2. केवल A, B, D और E
- 3. केवल C, D और E
- 4. केवल C और E

Options :

- 485584152341. 1
- 485584152342. 2
- 485584152343. 3
- 485584152344. 4

Question Number : 372 Question Id : 48558438087 Question Type : MCQ Option Shuffling : No Is Question Mandatory : No Calculator : None Response Time : N.A Think Time : N.A Minimum Instruction Time : 0

Correct Marks : 5 Wrong Marks : 1

Question Key Details :

Key	Value
Comprehension	MCQ2

Which is not the operation of Queue?

1. Insertfront
2. Push
3. Insertrear
4. Deletionfront

Options :

485584152345. 1
485584152346. 2
485584152347. 3
485584152348. 4

Question Number : 372 Question Id : 48558438087 Question Type : MCQ Option Shuffling : No Is Question Mandatory : No Calculator : None Response Time : N.A Think Time : N.A Minimum Instruction Time : 0

Correct Marks : 5 Wrong Marks : 1

Question Key Details :

Key	Value
Comprehension	MCQ2

क्यू का ऑपरेशन कौन-सा नहीं है?

1. इन्सर्टफ्रंट
2. पुश
3. इन्सर्टरियर
4. डिलीशनफ्रंट

Options :

485584152345. 1
485584152346. 2
485584152347. 3
485584152348. 4

Question Number : 373 Question Id : 48558438088 Question Type : MCQ Option Shuffling : No Is Question Mandatory : No Calculator : None Response Time : N.A Think Time : N.A Minimum Instruction Time : 0

Correct Marks : 5 Wrong Marks : 1

Question Key Details :

Key	Value
Comprehension	MCQ2

In a queue, insertions can take place only at the _____ end.

1. Front
2. Rear
3. Top
4. Bottom

Options :

485584152349. 1
485584152350. 2
485584152351. 3
485584152352. 4

Question Number : 373 Question Id : 48558438088 Question Type : MCQ Option Shuffling : No Is Question Mandatory : No Calculator : None
Response Time : N.A Think Time : N.A Minimum Instruction Time : 0

Correct Marks : 5 Wrong Marks : 1

Question Key Details :

Key	Value
Comprehension	MCQ2

क्यू में, इनसरसन केवल _____ छोर पर होना है।

1. आगे
2. पीछे
3. ऊपर
4. नीचे

Options :

- 485584152349. 1
- 485584152350. 2
- 485584152351. 3
- 485584152352. 4

Question Number : 374 Question Id : 48558438089 Question Type : MCQ Option Shuffling : No Is Question Mandatory : No Calculator : None
Response Time : N.A Think Time : N.A Minimum Instruction Time : 0

Correct Marks : 5 Wrong Marks : 1

Question Key Details :

Key	Value
Comprehension	MCQ2

Locating a particular element in a collection of elements is called _____.

1. Sorting
2. Searching
3. Ordering
4. Hashing

Options :

- 485584152353. 1
- 485584152354. 2
- 485584152355. 3
- 485584152356. 4

Question Number : 374 Question Id : 48558438089 Question Type : MCQ Option Shuffling : No Is Question Mandatory : No Calculator : None
Response Time : N.A Think Time : N.A Minimum Instruction Time : 0

Correct Marks : 5 Wrong Marks : 1

Question Key Details :

Key	Value
Comprehension	MCQ2

घटकों के समूह में एक विशेष घटक को इंगित करना _____ कहलाता है।

1. सौरटिंग
2. सर्चिंग
3. ऑर्डरिंग
4. हेसिंग

Options :

485584152353. 1
485584152354. 2
485584152355. 3
485584152356. 4

Question Number : 375 Question Id : 48558438090 Question Type : MCQ Option Shuffling : No Is Question Mandatory : No Calculator : None Response Time : N.A Think Time : N.A Minimum Instruction Time : 0

Correct Marks : 5 Wrong Marks : 1

Question Key Details :

Key	Value
Comprehension	MCQ2

Each element in the list is compared one by one with key is called _____.

1. Binary Search
2. Linear Search
3. Searching
4. Sorting

Options :

485584152357. 1
485584152358. 2
485584152359. 3
485584152360. 4

Question Number : 375 Question Id : 48558438090 Question Type : MCQ Option Shuffling : No Is Question Mandatory : No Calculator : None Response Time : N.A Think Time : N.A Minimum Instruction Time : 0

Correct Marks : 5 Wrong Marks : 1

Question Key Details :

Key	Value
Comprehension	MCQ2

सूची में प्रत्येक घटक कुंजी से एक-एक करके तुलना किया जाता है.....कहलाता है।

1. बाइनरी सर्च
2. लिनियर सर्च
3. सर्चिंग
4. सौरटिंग

Options :

485584152357. 1
485584152358. 2
485584152359. 3
485584152360. 4

Question Number : 376 Question Id : 48558438091 Question Type : MCQ Option Shuffling : No Is Question Mandatory : No Calculator : None
Response Time : N.A Think Time : N.A Minimum Instruction Time : 0

Correct Marks : 5 Wrong Marks : 1

Question Key Details :

Key	Value
Comprehension	MCQ2

Serial search or sequential search are also known as _____.

1. Linear Search
2. Binary Search
3. Quick Sort
4. Bubble Sort

Options :

- 485584152361. 1
- 485584152362. 2
- 485584152363. 3
- 485584152364. 4

Question Number : 376 Question Id : 48558438091 Question Type : MCQ Option Shuffling : No Is Question Mandatory : No Calculator : None
Response Time : N.A Think Time : N.A Minimum Instruction Time : 0

Correct Marks : 5 Wrong Marks : 1

Question Key Details :

Key	Value
Comprehension	MCQ2

सीरियल सर्च एवं सिकवेनशीयल सर्च को प्रकार से भी जाना जाता है _____।

1. लिनियर सर्च
2. बाइनरी सर्च
3. क्विक सॉर्ट
4. बबल सॉर्ट

Options :

- 485584152361. 1
- 485584152362. 2
- 485584152363. 3
- 485584152364. 4

Question Number : 377 Question Id : 48558438092 Question Type : MCQ Option Shuffling : No Is Question Mandatory : No Calculator : None
Response Time : N.A Think Time : N.A Minimum Instruction Time : 0

Correct Marks : 5 Wrong Marks : 1

Question Key Details :

Key	Value
Comprehension	MCQ2

Sorting a large number of items can take a substantial amount of time is called _____.

1. Head
2. Overhead
3. Overflow
4. Outer flow

Options :

- 485584152365. 1
- 485584152366. 2
- 485584152367. 3
- 485584152368. 4

Question Number : 377 Question Id : 48558438092 Question Type : MCQ Option Shuffling : No Is Question Mandatory : No Calculator : None Response Time : N.A Think Time : N.A Minimum Instruction Time : 0

Correct Marks : 5 Wrong Marks : 1

Question Key Details :

Key	Value
Comprehension	MCQ2

बड़ी संख्या में आइटम को सॉर्टिंग करने में काफी समय लग सकता है, इसे _____ कहा जाता है।

1. हेड
2. ओवरहेड
3. ओवरफ्लो
4. आउटरफ्लो

Options :

- 485584152365. 1
- 485584152366. 2
- 485584152367. 3
- 485584152368. 4

Question Number : 378 Question Id : 48558438093 Question Type : MCQ Option Shuffling : No Is Question Mandatory : No Calculator : None Response Time : N.A Think Time : N.A Minimum Instruction Time : 0

Correct Marks : 5 Wrong Marks : 1

Question Key Details :

Key	Value
Comprehension	MCQ2

A loop within a loop (nested loop) have time complexity _____.

1. n
2. n^2
3. $n+1$
4. n^3

Options :

- 485584152369. 1
- 485584152370. 2
- 485584152371. 3
- 485584152372. 4

Question Number : 378 Question Id : 48558438093 Question Type : MCQ Option Shuffling : No Is Question Mandatory : No Calculator : None
Response Time : N.A Think Time : N.A Minimum Instruction Time : 0

Correct Marks : 5 Wrong Marks : 1

Question Key Details :

Key	Value
Comprehension	MCQ2

लूप (नेस्टेड लूप) के भीतर एक लूप में समय की जटिलता _____ होती है।

1. n
2. n^2
3. $n+1$
4. n^3

Options :

- 485584152369. 1
- 485584152370. 2
- 485584152371. 3
- 485584152372. 4

Question Number : 379 Question Id : 48558438094 Question Type : MCQ Option Shuffling : No Is Question Mandatory : No Calculator : None
Response Time : N.A Think Time : N.A Minimum Instruction Time : 0

Correct Marks : 5 Wrong Marks : 1

Question Key Details :

Key	Value
Comprehension	MCQ2

Consider a list [8, 7, 13, 1, -5, 4]

After 3rd pass of Bubble Sort, we get

1. [1, -5, 4, 7, 8, 13]
2. [1, -5, 7, 4, 8, 13]
3. [1, 7, -5, 4, 8, 13]
4. [7, 1, -5, 4, 8, 13]

Options :

- 485584152373. 1
- 485584152374. 2
- 485584152375. 3
- 485584152376. 4

Question Number : 379 Question Id : 48558438094 Question Type : MCQ Option Shuffling : No Is Question Mandatory : No Calculator : None
Response Time : N.A Think Time : N.A Minimum Instruction Time : 0

Correct Marks : 5 Wrong Marks : 1

Question Key Details :

Key	Value
Comprehension	MCQ2

एक सूची [8, 7, 13, 1, -5, 4] पर विचार करें।

बबल सॉर्ट के तीसरे पास के बाद हमें मिलता है

1. [1, -5, 4, 7, 8, 13]
2. [1, -5, 7, 4, 8, 13]
3. [1, 7, -5, 4, 8, 13]
4. [7, 1, -5, 4, 8, 13]

Options :

- 485584152373. 1
- 485584152374. 2
- 485584152375. 3
- 485584152376. 4

Question Number : 380 Question Id : 48558438095 Question Type : MCQ Option Shuffling : No Is Question Mandatory : No Calculator : None Response Time : N.A Think Time : N.A Minimum Instruction Time : 0

Correct Marks : 5 Wrong Marks : 1

Question Key Details :

Key	Value
Comprehension	MCQ2

In which of the following sorting, the smallest element is selected from the unsorted array and swapped with the leftmost element and that element becomes a part of sorted array?

1. Bubble Sort
2. Selection Sort
3. Quick Sort
4. Merge Sort

Options :

- 485584152377. 1
- 485584152378. 2
- 485584152379. 3
- 485584152380. 4

Question Number : 380 Question Id : 48558438095 Question Type : MCQ Option Shuffling : No Is Question Mandatory : No Calculator : None Response Time : N.A Think Time : N.A Minimum Instruction Time : 0

Correct Marks : 5 Wrong Marks : 1

Question Key Details :

Key	Value
Comprehension	MCQ2

निम्नलिखित में से किस सॉर्टिंग में, सबसे छोटे एलिमेंट को अनसॉर्टेड एरे से चुना जाता है और सबसे बाएँ एलिमेंट के साथ स्वैप किया जाता है और वह एलिमेंट सॉर्टेड एरे का एक हिस्सा बन जाता है?

1. बबल सॉर्ट
2. सिलेक्शन सॉर्ट
3. क्विक सॉर्ट
4. मर्ज सॉर्ट

Options :

- 485584152377. 1

485584152378. 2
485584152379. 3
485584152380. 4

Question Number : 381 Question Id : 48558438096 Question Type : MCQ Option Shuffling : No Is Question Mandatory : No Calculator : None
Response Time : N.A Think Time : N.A Minimum Instruction Time : 0

Correct Marks : 5 Wrong Marks : 1

Question Key Details :

Key	Value
Comprehension	MCQ2

Which of the following statements are true?

- A. Mean is not a statistical technique used for data summarisation.
- B. Range is the difference between the maximum and minimum value.
- C. Mode is the data value that appears least number of times.
- D. Statistical analysis helps in revealing data characteristics.

Choose the correct answer from the options given below:

- 1. A and B only
- 2. B and C only
- 3. B and D only
- 4. A and C only

Options :

485584152381. 1
485584152382. 2
485584152383. 3
485584152384. 4

Question Number : 381 Question Id : 48558438096 Question Type : MCQ Option Shuffling : No Is Question Mandatory : No Calculator : None
Response Time : N.A Think Time : N.A Minimum Instruction Time : 0

Correct Marks : 5 Wrong Marks : 1

Question Key Details :

Key	Value
Comprehension	MCQ2

निम्नलिखित में से कौन-सा कथन सही है?

- A. माध्य एक सांख्यिकी तकनीक नहीं है जिसका उपयोग डेटा सारांशीकरण करने के लिए किया जाता है।
- B. परास (रेंज) अधिकतम और न्यूनतम मान के बीच का अंतर है।
- C. बहुलक वह डेटा मान है जो कम से कम बार दिखाई देता है।
- D. सांख्यिकी विश्लेषण डेटा विशेषताओं को प्रकट करने में मदद करता है।

नीचे दिए गए विकल्पों में से सही उत्तर का चयन कीजिए:

- 1. केवल A और B
- 2. केवल B और C
- 3. केवल B और D
- 4. केवल A और C

Options :

485584152381. 1
485584152382. 2

485584152383.3
485584152384.4

Question Number : 382 Question Id : 48558438097 Question Type : MCQ Option Shuffling : No Is Question Mandatory : No Calculator : None
Response Time : N.A Think Time : N.A Minimum Instruction Time : 0

Correct Marks : 5 Wrong Marks : 1

Question Key Details :

Key	Value
Comprehension	MCQ2

Consider the height of 9 students of a class in centimeter:

S.No.	1	2	3	4	5	6	7	8	9
Height (x) in cm	110	110	100	90	85	115	110	102	90

What will be the value of mean (\bar{x}) and $\sum (x - \bar{x})^2$ respectively?

1. 938.00 and 938.00
2. 938.00 and 101.33
3. 101.33 and 101.33
4. 101.33 and 938.00

Options :

485584152385.1
485584152386.2
485584152387.3
485584152388.4

Question Number : 382 Question Id : 48558438097 Question Type : MCQ Option Shuffling : No Is Question Mandatory : No Calculator : None
Response Time : N.A Think Time : N.A Minimum Instruction Time : 0

Correct Marks : 5 Wrong Marks : 1

Question Key Details :

Key	Value
Comprehension	MCQ2

सेटीमीटर में कक्षा 9 के छात्रों की ऊँचाई पर विचार करें:

S.No.	1	2	3	4	5	6	7	8	9
Height (x) in cm	110	110	100	90	85	115	110	102	90

माध्य (\bar{x}) और $\sum (x - \bar{x})^2$ का क्रमशः मान क्या होगा?

1. 938.00 और 938.00
2. 938.00 और 101.33
3. 101.33 और 101.33
4. 101.33 और 938.00

Options :

485584152385.1
485584152386.2
485584152387.3
485584152388.4

Question Number : 383 Question Id : 48558438098 Question Type : MCQ Option Shuffling : No Is Question Mandatory : No Calculator : None
Response Time : N.A Think Time : N.A Minimum Instruction Time : 0

Correct Marks : 5 Wrong Marks : 1

Question Key Details :

Key	Value
Comprehension	MCQ2

Match List I with List II

LIST I		LIST II	
A.	<code>select mod(13, 3);</code>	I.	12
B.	<code>select power(5, 3);</code>	II.	3
C.	<code>select length('Data Science');</code>	III.	1
D.	<code>select month('2020-03-12');</code>	IV.	125

Choose the correct answer from the options given below:

1. A-I, B-II, C-III, D-IV
2. A-III, B-IV, C-I, D-II
3. A-III, B-I, C-II, D-IV
4. A-II, B-III, C-I, D-IV

Options :

485584152389. 1
485584152390. 2
485584152391. 3
485584152392. 4

Question Number : 383 Question Id : 48558438098 Question Type : MCQ Option Shuffling : No Is Question Mandatory : No Calculator : None
Response Time : N.A Think Time : N.A Minimum Instruction Time : 0

Correct Marks : 5 Wrong Marks : 1

Question Key Details :

Key	Value
Comprehension	MCQ2

सूची I का सूची II से मिलान कीजिए

सूची I		सूची II	
A.	<code>select mod(13, 3);</code>	I.	12
B.	<code>select power(5, 3);</code>	II.	3
C.	<code>select length('Data Science');</code>	III.	1
D.	<code>select month('2020-03-12');</code>	IV.	125

निम्नलिखित विकल्पों में से सही उत्तर का चयन कीजिए :

1. A-I, B-II, C-III, D-IV
2. A-III, B-IV, C-I, D-II
3. A-III, B-I, C-II, D-IV
4. A-II, B-III, C-I, D-IV

Options :

485584152389. 1
485584152390. 2
485584152391. 3
485584152392. 4

Question Number : 384 Question Id : 48558438099 Question Type : MCQ Option Shuffling : No Is Question Mandatory : No Calculator : None
Response Time : N.A Think Time : N.A Minimum Instruction Time : 0

Correct Marks : 5 Wrong Marks : 1

Question Key Details :

Key	Value
Comprehension	MCQ2

Which of the following statement is NOT correct?

- A. By default, ORDER by clause sorts the result set in decreasing order
- B. SUM() function is used to count the total no. of records in a table
- C. By default, ORDER BY clause sorts the results set in increasing order
- D. AVG() is an aggregate function
- E. The WHERE clause is used to specify filtering conditions for groups

Consider the correct answer from the options given below:

- 1. A, C and D only
- 2. B, C and D only
- 3. A, B and E only
- 4. A, B and C only

Options :

- 485584152393. 1
- 485584152394. 2
- 485584152395. 3
- 485584152396. 4

Question Number : 384 Question Id : 48558438099 Question Type : MCQ Option Shuffling : No Is Question Mandatory : No Calculator : None Response Time : N.A Think Time : N.A Minimum Instruction Time : 0

Correct Marks : 5 Wrong Marks : 1

Question Key Details :

Key	Value
Comprehension	MCQ2

निम्नलिखित में से कौन-सा कथन सही नहीं है?

- A. ORDER क्लॉज द्वारा परिणाम सेट को घटते क्रम में डिफाल्ट रूप से क्रमबद्ध करता है।
- B. एक तालिका में रिकॉर्ड की कुल संख्या की गणना करने के लिए SUM() फंक्शन का उपयोग किया जाता है।
- C. ORDER BY खण्ड परिणामों को बढ़ते क्रम में डिफाल्ट रूप से सेट करता है।
- D. AVG() एक समग्र फंक्शन है।
- E. WHERE क्लॉज का उपयोग समूहों के लिए फिल्टरिंग शर्तों को निर्दिष्ट करने के लिए किया जाता है।

नीचे दिए गए विकल्पों में से सही उत्तर का चयन कीजिए:

- 1. केवल A, C और D
- 2. केवल B, C और D
- 3. केवल A, B और E
- 4. केवल A, B और C

Options :

- 485584152393. 1
- 485584152394. 2
- 485584152395. 3
- 485584152396. 4

Question Number : 385 Question Id : 48558438100 Question Type : MCQ Option Shuffling : No Is Question Mandatory : No Calculator : None Response Time : N.A Think Time : N.A Minimum Instruction Time : 0

Correct Marks : 5 Wrong Marks : 1

Question Key Details :

Key	Value
-----	-------

String function in SQL is/are -

- A. LTRIM()
- B. RIGHT()
- C. MID()
- D. DAY()
- E. MAX()

Choose the correct answer from the options given below :

- 1. A, B and E only
- 2. C, D and E only
- 3. B, C and E only
- 4. A, B and C only

Options :

- 485584152397. 1
- 485584152398. 2
- 485584152399. 3
- 485584152400. 4

Question Number : 385 Question Id : 48558438100 Question Type : MCQ Option Shuffling : No Is Question Mandatory : No Calculator : None Response Time : N.A Think Time : N.A Minimum Instruction Time : 0

Correct Marks : 5 Wrong Marks : 1

Question Key Details :

Key	Value
Comprehension	MCQ2

SQL में स्ट्रिंग फंक्शन है/हैं-

- A. LTRIM()
- B. RIGHT()
- C. MID()
- D. DAY()
- E. MAX()

नीचे दिए गए विकल्पों में से सही उत्तर का चयन कीजिए:

- 1. केवल A, B और E
- 2. केवल C, D और E
- 3. केवल B, C और E
- 4. केवल A, B और C

Options :

- 485584152397. 1
- 485584152398. 2
- 485584152399. 3
- 485584152400. 4

Sub-Section Number :

2

Sub-Section Id :

4855842917

Question Shuffling Allowed :

No

Is Section Default? :

null

Question Number : 386 Question Id : 48558438101 Question Type : MCQ Option Shuffling : No Is Question Mandatory : No Calculator : None Response Time : N.A Think Time : N.A Minimum Instruction Time : 0

Correct Marks : 5 Wrong Marks : 1

Question Key Details :

Key	Value
Comprehension	Comp1

Sahil is a student of Class X has just started understanding the basics of Internet and Web technologies. He is a bit confused in between the terms "World Wide Web", "Uniform Resource Locator", "Internet", "Domain Name", "DNS".

Answer the questions using the above paragraph:

_____ is the global network of computing devices including desktop, laptop, servers, tablets, mobile phones, scanners, printers -

1. HTTP
2. Internet
3. www
4. DNS

Options :

485584152401. 1
485584152402. 2
485584152403. 3
485584152404. 4

Question Number : 386 Question Id : 48558438101 Question Type : MCQ Option Shuffling : No Is Question Mandatory : No Calculator : None Response Time : N.A Think Time : N.A Minimum Instruction Time : 0

Correct Marks : 5 Wrong Marks : 1

Question Key Details :

Key	Value
Comprehension	Comp1

साहिल दसवीं कक्षा का छात्र है और उसने अभी अभी इंटरनेट और वेब तकनीकों की बुनियादी बातों को समझना शुरू किया है। वह "वर्ल्ड वाइड वेब", "यूनिफॉर्म रिसोर्स लोकेटर", "इंटरनेट", "डोमेन नेम", "डीएनएस" जैसे शब्दों के बीच थोड़ा भ्रमित है।

उपरोक्त पैराग्राफ का उपयोग करते हुए निम्नलिखित प्रश्नों के उत्तर दें:

_____ डेस्कटॉप, लैपटॉप, सर्वर, टैबलेट्स, मोबाइल फोन्स, स्कैनर्स, प्रिंटर सहित कंप्यूटिंग उपकरणों का वैश्विक नेटवर्क है.

1. HTTP
2. Internet
3. www
4. DNS

Options :

485584152401. 1
485584152402. 2
485584152403. 3
485584152404. 4

Question Number : 387 Question Id : 48558438102 Question Type : MCQ Option Shuffling : No Is Question Mandatory : No Calculator : None Response Time : N.A Think Time : N.A Minimum Instruction Time : 0

Correct Marks : 5 Wrong Marks : 1

Question Key Details :

Key	Value
Comprehension	Comp1

Sahil is a student of Class X has just started understanding the basics of Internet and Web technologies. He is a bit confused in between the terms "World Wide Web", "Uniform Resource Locator", "Internet", "Domain Name", "DNS".

Answer the questions using the above paragraph:

Conversion of the domain name of each web server to its corresponding IP address is called _____

1. DNS Sserver
2. Domain Name
3. Domain name resolution
4. URL

Options :

485584152405. 1
485584152406. 2
485584152407. 3
485584152408. 4

Question Number : 387 Question Id : 48558438102 Question Type : MCQ Option Shuffling : No Is Question Mandatory : No Calculator : None Response Time : N.A Think Time : N.A Minimum Instruction Time : 0

Correct Marks : 5 Wrong Marks : 1

Question Key Details :

Key	Value
Comprehension	Comp1

साहिल दसवीं कक्षा का छात्र है और उसने अभी अभी इंटरनेट और वेब तकनीकों की बुनियादी बातों को समझना शुरू किया है। वह "वर्ल्ड वाइड वेब", "यूनिफॉर्म रिसोर्स लोकेटर", "इंटरनेट", "डोमेन नेम", "डीएनएस" जैसे शब्दों के बीच थोड़ा भ्रमित है।

उपरोक्त पैराग्राफ का उपयोग करते हुए निम्नलिखित प्रश्नों के उत्तर दें:

प्रत्येक वेब सर्वर के डोमेन नेम को उसके संबंधित IP पते में बदलने को _____ कहा जाता है।

1. डीएनएस सर्वर
2. डोमेन नेम
3. डोमेन नेम रिजॉल्यूशन
4. यूआरएल

Options :

485584152405. 1
485584152406. 2
485584152407. 3
485584152408. 4

Question Number : 388 Question Id : 48558438103 Question Type : MCQ Option Shuffling : No Is Question Mandatory : No Calculator : None Response Time : N.A Think Time : N.A Minimum Instruction Time : 0

Correct Marks : 5 Wrong Marks : 1

Question Key Details :

Key	Value
Comprehension	Comp1

Sahil is a student of Class X has just started understanding the basics of Internet and Web technologies. He is a bit confused in between the terms "World Wide Web", "Uniform Resource Locator", "Internet", "Domain Name", "DNS".

Answer the questions using the above paragraph:

Fill in the blanks:

The resources on the _____ can be shared or accessed through the _____

1. Internet, www
2. website, world
3. world, website
4. www, network

Options :

485584152409. 1
485584152410. 2
485584152411. 3
485584152412. 4

Question Number : 388 Question Id : 48558438103 Question Type : MCQ Option Shuffling : No Is Question Mandatory : No Calculator : None Response Time : N.A Think Time : N.A Minimum Instruction Time : 0

Correct Marks : 5 Wrong Marks : 1

Question Key Details :

Key	Value
Comprehension	Comp1

साहिल दसवीं कक्षा का छात्र है और उसने अभी अभी इंटरनेट और वेब तकनीकों की बुनियादी बातों को समझना शुरू किया है। वह "वर्ल्ड वाइड वेब", "यूनिफॉर्म रिसोर्स लोकेटर", "इंटरनेट", "डोमेन नेम", "डीएनएस" जैसे शब्दों के बीच थोड़ा भ्रमित है।

उपरोक्त पैराग्राफ का उपयोग करते हुए निम्नलिखित प्रश्नों के उत्तर दें:

खाली स्थान भरें .

_____ पर संसाधनों को साझा किया जा सकता है या _____ के माध्यम से एक्सेस किया जा सकता है।

1. इंटरनेट, डब्ल्यूडब्ल्यूडब्ल्यू
2. वेबसाइट, वर्ल्ड
3. वर्ल्ड, वेबसाइट
4. डब्ल्यूडब्ल्यूडब्ल्यू, नेटवर्क

Options :

485584152409. 1
485584152410. 2
485584152411. 3
485584152412. 4

Question Number : 389 Question Id : 48558438104 Question Type : MCQ Option Shuffling : No Is Question Mandatory : No Calculator : None
Response Time : N.A Think Time : N.A Minimum Instruction Time : 0

Correct Marks : 5 Wrong Marks : 1

Question Key Details :

Key	Value
Comprehension	Compl

Sahil is a student of Class X has just started understanding the basics of Internet and Web technologies. He is a bit confused in between the terms "World Wide Web", "Uniform Resource Locator", "Internet", "Domain Name", "DNS".

Answer the questions using the above paragraph:

Identify the parts (PART A, PART B) in the given statement:

 PART A
www.ncert.nic.in/textbooks.htm
 Part B

1. URL, Domain name
2. Domain name, URL
3. DNS, www
4. www, DNS

Options :

485584152413. 1
485584152414. 2
485584152415. 3
485584152416. 4

Question Number : 389 Question Id : 48558438104 Question Type : MCQ Option Shuffling : No Is Question Mandatory : No Calculator : None
Response Time : N.A Think Time : N.A Minimum Instruction Time : 0

Correct Marks : 5 Wrong Marks : 1

Question Key Details :

Key	Value
Comprehension	Compl

साहिल दसवीं कक्षा का छात्र है और उसने अभी अभी इंटरनेट और वेब तकनीकों की खनियादी बातों को समझना शुरू किया है। वह "वर्ल्ड वाइड वेब", "यूनिफॉर्म रिसोर्स लोकेटर", "इंटरनेट", "डोमेन नेम", "डीएनएस" जैसे शब्दों के बीच थोड़ा भ्रमित है।

उपरोक्त पैराग्राफ का उपयोग करते हुए निम्नलिखित प्रश्नों के उत्तर दें:

दिए गए कथनों में भागों (भाग A, भाग B) को पहचानें :

PART A

www.ncert.nic.in/textbooks.htm

Part B

1. यूआरएल, डोमेन नेम
2. डोमेन नेम, यूआरएल
3. डीएनएस, उब्ल्यूडब्ल्यूडब्ल्यू
4. उब्ल्यूडब्ल्यूडब्ल्यू, डीएनएस

Options :

485584152413. 1
485584152414. 2
485584152415. 3
485584152416. 4

Question Number : 390 Question Id : 48558438105 Question Type : MCQ Option Shuffling : No Is Question Mandatory : No Calculator : None Response Time : N.A Think Time : N.A Minimum Instruction Time : 0

Correct Marks : 5 Wrong Marks : 1

Question Key Details :

Key	Value
Comprehension	Compl

Sahil is a student of Class X has just started understanding the basics of Internet and Web technologies. He is a bit confused in between the terms "World Wide Web", "Uniform Resource Locator", "Internet", "Domain Name", "DNS".

Answer the questions using the above paragraph:

_____ are the set of rules to govern the internet and used to retrieve linked web pages across the web.

1. HTML
2. URL
3. HTTP
4. DNS

Options :

485584152417. 1
485584152418. 2
485584152419. 3
485584152420. 4

Question Number : 390 Question Id : 48558438105 Question Type : MCQ Option Shuffling : No Is Question Mandatory : No Calculator : None Response Time : N.A Think Time : N.A Minimum Instruction Time : 0

Correct Marks : 5 Wrong Marks : 1

Question Key Details :

Key	Value
Comprehension	Compl

साहित्य दसवीं कक्षा का छात्र है और उसने अभी अभी इंटरनेट और वेब तकनीकों की बुनियादी बातों को समझना शुरू किया है। वह "वर्ल्ड वाइड वेब", "यूनिफॉर्म रिसोर्स लोकेटर", "इंटरनेट", "होमपेज", "डीएनएस" जैसे शब्दों के बीच थोड़ा भ्रमित है।

उपरोक्त पैराग्राफ का उपयोग करते हुए निम्नलिखित प्रश्नों के उत्तर दें:

इंटरनेट _____ को नियंत्रित करने के लिए नियमों का सेट है और पूरे वेब पर लिंक किए गए वेब पेजों को पुनः प्राप्त करने के लिए उपयोग किया जाता है।

1. एचटीएमएल
2. यूआरएल
3. एचटीटीपी
4. डीएनएस

Options :

- 485584152417. 1
- 485584152418. 2
- 485584152419. 3
- 485584152420. 4

Sub-Section Number : 3
Sub-Section Id : 4855842918
Question Shuffling Allowed : No
Is Section Default? : null

Question Number : 391 Question Id : 48558438106 Question Type : MCQ Option Shuffling : No Is Question Mandatory : No Calculator : None Response Time : N.A Think Time : N.A Minimum Instruction Time : 0 Correct Marks : 5 Wrong Marks : 1

Question Key Details :

Key	Value
Comprehension	Comp2

A record of each student with its sports preference is given:

SPORT

Rno	Sports
9	Cricket
13	Football
14	Badminton
16	Football
19	NULL
20	Cricket
22	Football

Based on the data, answer the questions.

Identify the command to check for NULL value in sports

1. Select NULL from SPORT;
2. Select Rno from SPORT where Sports = NULL;
3. Select Rno from SPORT with NULL;
4. Select Rno from SPORT where Sports IS NULL;

Options :

- 485584152421. 1
- 485584152422. 2
- 485584152423. 3
- 485584152424. 4

Question Number : 391 Question Id : 48558438106 Question Type : MCQ Option Shuffling : No Is Question Mandatory : No Calculator : None Response Time : N.A Think Time : N.A Minimum Instruction Time : 0

Correct Marks : 5 Wrong Marks : 1

Question Key Details :

Key	Value
Comprehension	Comp2

प्रत्येक छात्र का उसकी खेलों की वरीयता के साथ एक रिकार्ड दिया गया है।

SPORT

Rno	Sports
9	Cricket
13	Football
14	Badminton
16	Football
19	NULL
20	Cricket
22	Football

आंकड़ों के आधार पर प्रश्नों के उत्तर दीजिए

खेलों में NULL मान की जांच करने के लिए कमांड को पहचानें

1. Select NULL from SPORT;
2. Select Rno from SPORT where Sports = NULL;
3. Select Rno from SPORT with NULL;
4. Select Rno from SPORT where Sports IS NULL;

Options :

- 485584152421. 1
- 485584152422. 2
- 485584152423. 3
- 485584152424. 4

Question Number : 392 Question Id : 48558438107 Question Type : MCQ Option Shuffling : No Is Question Mandatory : No Calculator : None Response Time : N.A Think Time : N.A Minimum Instruction Time : 0

Correct Marks : 5 Wrong Marks : 1

Question Key Details :

Key	Value
Comprehension	Comp2

A record of each student with its sports preference is given:

SPORT

Rno	Sports
9	Cricket
13	Football
14	Badminton
16	Football
19	NULL
20	Cricket
22	Football

Based on the data, answer the questions.

If Rno14 has two Sports, then which property of RDBMS is violated.

1. Data is redundant
2. Data is consistent
3. Data is integrated
4. Data error

Options :

485584152425. 1
 485584152426. 2
 485584152427. 3
 485584152428. 4

Question Number : 392 Question Id : 48558438107 Question Type : MCQ Option Shuffling : No Is Question Mandatory : No Calculator : None Response Time : N.A Think Time : N.A Minimum Instruction Time : 0

Correct Marks : 5 Wrong Marks : 1

Question Key Details :

Key	Value
Comprehension	Comp2

प्रत्येक छात्र का उसकी खेलों की वरीयता के साथ एक रिकार्ड दिया गया है।

SPORT

Rno	Sports
9	Cricket
13	Football
14	Badminton
16	Football
19	NULL
20	Cricket
22	Football

अंकड़ों के आधार पर प्रश्नों के उत्तर दीजिए।

आगर Rao 14 के दो भाग हों, तो RDBMS की किस नियम का उल्लंघन होता है।

1. डेटा रिडंडेंट हैं।
2. डेटा कंसिस्टेंट हैं।
3. डेटा इंटीग्रेटेड हैं।
4. डेटा ऐस

Options :

- 485584152425. 1
- 485584152426. 2
- 485584152427. 3
- 485584152428. 4

Question Number : 393 Question Id : 48558438108 Question Type : MCQ Option Shuffling : No Is Question Mandatory : No Calculator : None Response Time : N.A Think Time : N.A Minimum Instruction Time : 0

Correct Marks : 5 Wrong Marks : 1

Question Key Details :

Key	Value
Comprehension	Comp2

A record of each student with its sports preference is given:

SPORT

Rno	Sports
9	Cricket
13	Football
14	Badminton
16	Football
19	NULL
20	Cricket
22	Football

Based on the data, answer the questions:

Which column can be considered as primary key.

1. Sports
2. Rao
3. Rao, Sports
4. No primary key in table

Options :

- 485584152429. 1
- 485584152430. 2
- 485584152431. 3
- 485584152432. 4

Question Number : 393 Question Id : 48558438108 Question Type : MCQ Option Shuffling : No Is Question Mandatory : No Calculator : None Response Time : N.A Think Time : N.A Minimum Instruction Time : 0

Correct Marks : 5 Wrong Marks : 1

Question Key Details :

Key	Value
Comprehension	Comp2

प्रत्येक छात्र का उसकी खेलों की वरीयता के साथ एक रिकार्ड दिया गया है।

SPORT

Rno	Sports
9	Cricket
13	Football
14	Badminton
16	Football
19	NULL
20	Cricket
22	Football

ऑकड़ों के आधार पर प्रश्नों के उत्तर दीजिए।

किस कॉलम को प्राथमिक कुंजी माना जा सकता है।

1. Sports
2. Rno
3. Rno, Sports
4. तालिका में कोई प्राथमिक कुंजी नहीं है

Options :

485584152429. 1
485584152430. 2
485584152431. 3
485584152432. 4

Question Number : 394 Question Id : 48558438109 Question Type : MCQ Option Shuffling : No Is Question Mandatory : No Calculator : None
Response Time : N.A Think Time : N.A Minimum Instruction Time : 0

Correct Marks : 5 Wrong Marks : 1

Question Key Details :

Key	Value
Comprehension	Comp2

A record of each student with its sports preference is given:

SPORT

Rno	Sports
9	Cricket
13	Football
14	Badminton
16	Football
19	NULL
20	Cricket
22	Football

Based on the data, answer the questions

Name the clause used to show all different sports.

1. DIFFERENT
2. UNIQUE
3. DISTINCT
4. PRIMARY KEY

Options :

- 485584152433. 1
- 485584152434. 2
- 485584152435. 3
- 485584152436. 4

Question Number : 394 Question Id : 48558438109 Question Type : MCQ Option Shuffling : No Is Question Mandatory : No Calculator : None Response Time : N.A Think Time : N.A Minimum Instruction Time : 0

Correct Marks : 5 Wrong Marks : 1

Question Key Details :

Key	Value
Comprehension	Comp2

प्रत्येक छात्र का उसकी खेलों की वरीयता के साथ एक रिकार्ड दिया गया है।

SPORT

Rno	Sports
9	Cricket
13	Football
14	Badminton
16	Football
19	NULL
20	Cricket
22	Football

आंकड़ों के आधार पर प्रश्नों के उत्तर दीजिए।

सभी अलग-अलग खेलों को दर्शाने के लिए प्रयुक्त क्लोज (उपवाक्य) बताइए।

1. DIFFERENT
2. UNIQUE
3. DISTINCT
4. PRIMARY KEY

Options :

- 485584152433. 1
- 485584152434. 2
- 485584152435. 3
- 485584152436. 4

Question Number : 395 Question Id : 48558438110 Question Type : MCQ Option Shuffling : No Is Question Mandatory : No Calculator : None Response Time : N.A Think Time : N.A Minimum Instruction Time : 0

Correct Marks : 5 Wrong Marks : 1

Question Key Details :

Key	Value
Comprehension	Comp2

A record of each student with its sports preference is given:

SPORT

Rno	Sports
9	Cricket
13	Football
14	Badminton
16	Football
19	NULL
20	Cricket
22	Football

Based on the data, answer the questions

Find the output of -

```
select count(Distinct Sports) from SPORT;
```

1. 7
2. 6
3. 4
4. 3

Options :

- 485584152437. 1
- 485584152438. 2
- 485584152439. 3
- 485584152440. 4

Question Number : 395 Question Id : 48558438110 Question Type : MCQ Option Shuffling : No Is Question Mandatory : No Calculator : None Response Time : N.A Think Time : N.A Minimum Instruction Time : 0

Correct Marks : 5 Wrong Marks : 1

Question Key Details :

Key	Value
Comprehension	Comp2

प्रत्येक छात्र का उसकी खेलों की वरीयता के साथ एक रिकार्ड दिया गया है।

SPORT

Rno	Sports
9	Cricketer
13	Football
14	Badminton
16	Football
19	NULL
20	Cricketer
22	Football

ऑफ़िडो के आधार पर प्रश्नों के उत्तर दीजिए

आउटपुट खोजें.

select count (Distinct Sports) from SPORT;

1. 7
2. 6
3. 4
4. 3

Options :

485584152437. 1
485584152438. 2
485584152439. 3
485584152440. 4

Sub-Section Number : 4
Sub-Section Id : 4855842919
Question Shuffling Allowed : Yes
Is Section Default? : null

Question Number : 396 Question Id : 48558438111 Question Type : MCQ Option Shuffling : No Is Question Mandatory : No Calculator : None
Response Time : N.A Think Time : N.A Minimum Instruction Time : 0

Correct Marks : 5 Wrong Marks : 1

Question Key Details :

Key	Value
Comprehension	MCQ3

Given n values x_1, x_2, \dots, x_n . The computation

$$\frac{\sum_{j=1}^n x_j}{n} \text{ is known as?}$$

1. Mean
2. Median
3. Mode
4. Range

Options :

485584152441. 1
485584152442. 2
485584152443. 3
485584152444. 4

Question Number : 396 Question Id : 48558438111 Question Type : MCQ Option Shuffling : No Is Question Mandatory : No Calculator : None Response Time : N.A Think Time : N.A Minimum Instruction Time : 0

Correct Marks : 5 Wrong Marks : 1

Question Key Details :

Key	Value
Comprehension	MCQ3

n मान x_1, x_2, \dots, x_n दिए गए है। गणना

$$\frac{\sum_{j=1}^n x_j}{n} \text{ के } \underline{\hspace{2cm}} \text{ रुप में जाना जाता है?}$$

1. माध्य
2. माधिका
3. बहुलक
4. परास (रेंज)

Options :

485584152441. 1
485584152442. 2
485584152443. 3
485584152444. 4

Question Number : 397 Question Id : 48558438112 Question Type : MCQ Option Shuffling : No Is Question Mandatory : No Calculator : None Response Time : N.A Think Time : N.A Minimum Instruction Time : 0

Correct Marks : 5 Wrong Marks : 1

Question Key Details :

Key	Value
Comprehension	MCQ3

Consider the function header given below and identify the correct call statement(s) to call the below function.

```
def fun(x, y=10, z = 15):
```

- A. fun(30)
- B. fun(30, 40)
- C. fun()
- D. fun(10, 20, 30)
- E. fun(10, 20, 30, 40)

Choose the correct answer from the options given below:

1. A, B and E
2. A, B and D
3. B, C and D
4. B, D and E

Options :

- 485584152445. 1
- 485584152446. 2
- 485584152447. 3
- 485584152448. 4

Question Number : 397 Question Id : 48558438112 Question Type : MCQ Option Shuffling : No Is Question Mandatory : No Calculator : None Response Time : N.A Think Time : N.A Minimum Instruction Time : 0

Correct Marks : 5 Wrong Marks : 1

Question Key Details :

Key	Value
Comprehension	MCQ3

नीचे दिए गए फंक्शन हेडर पर विचार करें और नीचे दिए गए फंक्शन को कॉल करने के लिए सही कॉल स्टेटमेंट (s) की पहचान।

```
def fun(x, y=10, z = 15):
```

- A. fun(30)
- B. fun(30, 40)
- C. fun()
- D. fun(10, 20, 30)
- E. fun(10, 20, 30, 40)

नीचे दिए गए विकल्पों में से सही उत्तर का चयन कीजिए:

1. A, B और E
2. A, B और D
3. B, C और D
4. B, D और E

Options :

- 485584152445. 1
- 485584152446. 2
- 485584152447. 3
- 485584152448. 4

Question Number : 398 Question Id : 48558438113 Question Type : MCQ Option Shuffling : No Is Question Mandatory : No Calculator : None Response Time : N.A Think Time : N.A Minimum Instruction Time : 0

Correct Marks : 5 Wrong Marks : 1

Question Key Details :

Key	Value
Comprehension	MCQ3

Match List I with List II

LIST I	LIST II
A. tell()	I. This function used to position the file object at particular position in a file
B. seek()	II. This function returns an integer that specifies the current position of the object in the file
C. dump()	III. This function is used to convert Python objects for writing data in a binary file
D. load()	IV. This function is used to load data from a binary file

Choose the correct answer from the options given below:

1. A-I, B-II, C-III, D-IV
2. A-II, B-I, C-III, D-IV
3. A-III, B-IV, C-I, D-II
4. A-IV, B-III, C-I, D-II

Options :

485584152449. 1
485584152450. 2
485584152451. 3
485584152452. 4

Question Number : 398 Question Id : 48558438113 Question Type : MCQ Option Shuffling : No Is Question Mandatory : No Calculator : None
Response Time : N.A Think Time : N.A Minimum Instruction Time : 0

Correct Marks : 5 Wrong Marks : 1

Question Key Details :

Key	Value
Comprehension	MCQ3

सूची I का सूची II से मिलान कीजिए

सूची I	सूची II
A. tell()	I. फाइल आब्जेक्ट को फाइल में विशेष स्थान पर रखने के लिए उपयोग किया जाने वाला फंक्शन है।
B. seek()	II. फंक्शन एक पूर्णांक देता है जो फाइल में आब्जेक्ट की वर्तमान स्थिति निर्दिष्ट करता है।
C. dump()	III. फंक्शन का उपयोग बाइनरी फाइल में डेटा लिखने के लिए पाइथन आब्जेक्ट को परिवर्तित करने के लिए किया जाता है
D. load()	IV. फंक्शन का उपयोग बाइनरी फाइल से डेटा लोड करने के लिए किया जाता है

निम्नलिखित विकल्पों में से सही उत्तर का चयन कीजिए :

1. A-I, B-II, C-III, D-IV
2. A-II, B-I, C-III, D-IV
3. A-III, B-IV, C-I, D-II
4. A-IV, B-III, C-I, D-II

Options :

485584152449. 1
485584152450. 2
485584152451. 3
485584152452. 4

Question Number : 399 Question Id : 48558438114 Question Type : MCQ Option Shuffling : No Is Question Mandatory : No Calculator : None
Response Time : N.A Think Time : N.A Minimum Instruction Time : 0

Correct Marks : 5 Wrong Marks : 1

Question Key Details :

Key	Value
Comprehension	MCQ3

Match List I with List II

LIST I		LIST II	
A.	Image	I.	text/icons
B.	unstructured data	II.	frames
C.	Messages	III.	metadata
D.	Video	IV.	pixels

Choose the correct answer from the options given below:

1. A-II, B-III, C-IV, D-I
2. A-IV, B-III, C-I, D-II
3. A-I, B-II, C-III, D-IV
4. A-III, B-II, C-IV, D-I

Options :

485584152453. 1
485584152454. 2
485584152455. 3
485584152456. 4

Question Number : 399 Question Id : 48558438114 Question Type : MCQ Option Shuffling : No Is Question Mandatory : No Calculator : None Response Time : N.A Think Time : N.A Minimum Instruction Time : 0

Correct Marks : 5 Wrong Marks : 1

Question Key Details :

Key	Value
Comprehension	MCQ3

सूची I का सूची II से मिलान कीजिए

सूची I		सूची II	
A.	इमेज़	I.	टेक्स्ट-आइकोन्स
B.	अनसूक्वर्ड डेटा	II.	फ्रेम्स
C.	मैसेज़	III.	मेटा डेटा
D.	विडियो	IV.	पिक्सल्स

निम्नलिखित विकल्पों में से सही उत्तर का चयन कीजिए :

1. A-II, B-III, C-IV, D-I
2. A-IV, B-III, C-I, D-II
3. A-I, B-II, C-III, D-IV
4. A-III, B-II, C-IV, D-I

Options :

485584152453. 1
485584152454. 2
485584152455. 3
485584152456. 4

Question Number : 400 Question Id : 48558438115 Question Type : MCQ Option Shuffling : No Is Question Mandatory : No Calculator : None Response Time : N.A Think Time : N.A Minimum Instruction Time : 0

Correct Marks : 5 Wrong Marks : 1

Question Key Details :

Key	Value
Comprehension	MCQ3

What will be returned by the given query?

Select INSTR("DBIT BTTSIT", "IT");

1. 2
2. 3
3. 10
4. -2

Options :

- 485584152457. 1
- 485584152458. 2
- 485584152459. 3
- 485584152460. 4

Question Number : 400 Question Id : 48558438115 Question Type : MCQ Option Shuffling : No Is Question Mandatory : No Calculator : None
Response Time : N.A Think Time : N.A Minimum Instruction Time : 0

Correct Marks : 5 Wrong Marks : 1

Question Key Details :

Key	Value
Comprehension	MCQ3

दी गई क्वेरी क्या देगी?

Select INSTR("DBIT BTTSIT", "IT");

1. 2
2. 3
3. 10
4. -2

Options :

- 485584152457. 1
- 485584152458. 2
- 485584152459. 3
- 485584152460. 4

Informatics Practices

Section Id :	4855841032
Section Number :	3
Section type :	Online
Mandatory or Optional :	Optional
Number of Questions :	35
Number of Questions to be attempted :	25
Section Marks :	125
Enable Mark as Answered Mark for Review and Clear Response :	Yes
Maximum Instruction Time :	0
Sub-Section Number :	1
Sub-Section Id :	4855842920
Question Shuffling Allowed :	Yes
Is Section Default? :	null

Question Number : 401 Question Id : 48558438116 Question Type : MCQ Option Shuffling : No Is Question Mandatory : No Calculator : None Response Time : N.A Think Time : N.A Minimum Instruction Time : 0

Correct Marks : 5 Wrong Marks : 1

Question Key Details :

Key	Value
Comprehension	MCQ4

```
srAsrB=srA[0:3]-srB['a':'c']
```

As per the above statement, what are the values of objects srAsrB. Choose correct output-

1.

a	20
b	30
c	40

2.

a	30
b	40
c	30

3.

a	40
b	100
c	40

4.

a	80
b	110
c	20

Options :

485584152461. 1

485584152462. 2

485584152463. 3

485584152464. 4

Question Number : 401 Question Id : 48558438116 Question Type : MCQ Option Shuffling : No Is Question Mandatory : No Calculator : None Response Time : N.A Think Time : N.A Minimum Instruction Time : 0

Correct Marks : 5 Wrong Marks : 1

Question Key Details :

Key	Value
Comprehension	MCQ4

```
srAsrB=srA[0:3]-srB['a':'c']
```

उपरोक्त कथन के अनुसार ऑब्जेक्ट srAsrB के मान क्या है। सही आउटपुट चुनें-

1.

a	20
b	30
c	40

2.

a	30
b	40
c	30

3.

a	40
b	100
c	40

4.

a	80
b	110
c	20

Options :

485584152461. 1

485584152462. 2

485584152463. 3

485584152464. 4

Question Number : 402 Question Id : 48558438117 Question Type : MCQ Option Shuffling : No Is Question Mandatory : No Calculator : None
Response Time : N.A Think Time : N.A Minimum Instruction Time : 0

Correct Marks : 5 Wrong Marks : 1

Question Key Details :

Key	Value
Comprehension	MCQ4

Which statement is correct to check that the series is without elements?

1. srA.empty
2. srA.null
3. srA.blank
4. srA.nan

Options :

485584152465. 1
485584152466. 2
485584152467. 3
485584152468. 4

Question Number : 402 Question Id : 48558438117 Question Type : MCQ Option Shuffling : No Is Question Mandatory : No Calculator : None
Response Time : N.A Think Time : N.A Minimum Instruction Time : 0

Correct Marks : 5 Wrong Marks : 1

Question Key Details :

Key	Value
Comprehension	MCQ4

श्रृंखला बिना एलीमेंट की है यह जाँचने के लिए कौन सा कथन सही है?

1. srA.empty
2. srA.null
3. srA.blank
4. srA.nan

Options :

485584152465. 1
485584152466. 2
485584152467. 3
485584152468. 4

Question Number : 403 Question Id : 48558438118 Question Type : MCQ Option Shuffling : No Is Question Mandatory : No Calculator : None
Response Time : N.A Think Time : N.A Minimum Instruction Time : 0

Correct Marks : 5 Wrong Marks : 1

Question Key Details :

Key	Value
Comprehension	MCQ4

A class teacher wants to manage her class Result in her computer using Pandas. Help her to choose the data structure which is best suited for her to manage class result.

1. Series
2. Numpy Array
3. DataFrame
4. List

Options :

- 485584152469. 1
- 485584152470. 2
- 485584152471. 3
- 485584152472. 4

Question Number : 403 Question Id : 48558438118 Question Type : MCQ Option Shuffling : No Is Question Mandatory : No Calculator : None Response Time : N.A Think Time : N.A Minimum Instruction Time : 0

Correct Marks : 5 Wrong Marks : 1

Question Key Details :

Key	Value
Comprehension	MCQ4

एक कक्षा अध्यापिका पाठ्यास का उपयोग करके कम्प्यूटर में अपनी कक्षा के परिणाम को प्रबंधित करना चाहती है। कक्षा परिणाम को प्रबंधित करने के लिए सबसे उपयुक्त डाटा स्ट्रक्चर को चुनने में उसकी मदद करें।

1. सीरीज़
2. Numpy एरे
3. डेटाफ्रेम
4. लिस्ट

Options :

- 485584152469. 1
- 485584152470. 2
- 485584152471. 3
- 485584152472. 4

Question Number : 404 Question Id : 48558438119 Question Type : MCQ Option Shuffling : No Is Question Mandatory : No Calculator : None Response Time : N.A Think Time : N.A Minimum Instruction Time : 0

Correct Marks : 5 Wrong Marks : 1

Question Key Details :

Key	Value
Comprehension	MCQ4

_____, leads to an error, if there are multiple entries for a column's value for the same values for index (row).

1. pivot_table()
2. pivot()
3. describe()
4. describe all()

Options :

- 485584152473. 1
- 485584152474. 2

485584152475. 3
485584152476. 4

Question Number : 404 Question Id : 48558438119 Question Type : MCQ Option Shuffling : No Is Question Mandatory : No Calculator : None
Response Time : N.A Think Time : N.A Minimum Instruction Time : 0
Correct Marks : 5 Wrong Marks : 1

Question Key Details :

Key	Value
Comprehension	MCQ4

_____ एक त्रुटि की ओर जाता है, यदि इंडेक्स (पंक्ति) के समान मानों के लिए एकाधिक कॉलम के मान की प्रविष्टियाँ हैं।

1. pivot_table()
2. pivot()
3. describe()
4. describe all()

Options :

485584152473. 1
485584152474. 2
485584152475. 3
485584152476. 4

Question Number : 405 Question Id : 48558438120 Question Type : MCQ Option Shuffling : No Is Question Mandatory : No Calculator : None
Response Time : N.A Think Time : N.A Minimum Instruction Time : 0
Correct Marks : 5 Wrong Marks : 1

Question Key Details :

Key	Value
Comprehension	MCQ4

_____ will drop all rows that have NaN values in them while _____ will drop only those rows that have all NaN values.

1. dropna (how='all'), dropna()
2. dropna(), dropna (how='all')
3. fillna()
4. deletena(how = 'all'), deletena()

Options :

485584152477. 1
485584152478. 2
485584152479. 3
485584152480. 4

Question Number : 405 Question Id : 48558438120 Question Type : MCQ Option Shuffling : No Is Question Mandatory : No Calculator : None
Response Time : N.A Think Time : N.A Minimum Instruction Time : 0
Correct Marks : 5 Wrong Marks : 1

Question Key Details :

Key	Value
Comprehension	MCQ4

उन सभी पंक्तियों को हटा देगा जिनमें NaN मान है जबकि _____ केवल उन पंक्तियों को छोड़ देगा जिनमें सभी NaN मान हैं।

1. `dropna (how='all'), dropna()`
2. `dropna (how='all'), dropna()`
3. `fillna()`
4. `deletena(how = 'all'), deletena()`

Options :

- 485584152477. 1
- 485584152478. 2
- 485584152479. 3
- 485584152480. 4

Question Number : 406 Question Id : 48558438121 Question Type : MCQ Option Shuffling : No Is Question Mandatory : No Calculator : None Response Time : N.A Think Time : N.A Minimum Instruction Time : 0

Correct Marks : 5 Wrong Marks : 1

Question Key Details :

Key	Value
Comprehension	MCQ4

Which of the following is/are true statements?

- A. Python integer types can not store NaN values.
- B. Python float types can not store NaN values
- C. Python integer types can store NaN values
- D. Python float types can store NaN values

Choose the correct answer from the options given below :

1. B and C only
2. A and B only
3. C and D only
4. A and D only

Options :

- 485584152481. 1
- 485584152482. 2
- 485584152483. 3
- 485584152484. 4

Question Number : 406 Question Id : 48558438121 Question Type : MCQ Option Shuffling : No Is Question Mandatory : No Calculator : None Response Time : N.A Think Time : N.A Minimum Instruction Time : 0

Correct Marks : 5 Wrong Marks : 1

Question Key Details :

Key	Value
Comprehension	MCQ4

निम्नलिखित में से कौन-सा कथन सही है?

- A. पायथन इंटीजर टाइप्स NaN मानों को संग्रहीत नहीं कर सकता है।
- B. पायथन फ्लोट टाइप्स NaN मानों को संग्रहीत नहीं कर सकता है।
- C. पायथन इंटीजर टाइप्स NaN मानों को संग्रहीत कर सकता है।
- D. पायथन फ्लोट टाइप्स NaN मानों को संग्रहीत कर सकता है।

नीचे दिए गए विकल्पों में से सही उत्तर का चयन कीजिए:

- 1. केवल B और C
- 2. केवल A और B
- 3. केवल C और D
- 4. केवल A और D

Options :

- 485584152481. 1
- 485584152482. 2
- 485584152483. 3
- 485584152484. 4

Question Number : 407 Question Id : 48558438122 Question Type : MCQ Option Shuffling : No Is Question Mandatory : No Calculator : None Response Time : N.A Think Time : N.A Minimum Instruction Time : 0

Correct Marks : 5 Wrong Marks : 1

Question Key Details :

Key	Value
Comprehension	MCQ4

Which of the following is not a line style?

- 1. Solid
- 2. dotted
- 3. dashdot
- 4. dark

Options :

- 485584152485. 1
- 485584152486. 2
- 485584152487. 3
- 485584152488. 4

Question Number : 407 Question Id : 48558438122 Question Type : MCQ Option Shuffling : No Is Question Mandatory : No Calculator : None Response Time : N.A Think Time : N.A Minimum Instruction Time : 0

Correct Marks : 5 Wrong Marks : 1

Question Key Details :

Key	Value
Comprehension	MCQ4

निम्नलिखित में से कौन सी लाइन-स्टाइल नहीं है?

1. सॉलिड
2. डॉटेड
3. डैशडॉट
4. डार्क

Options :

485584152485. 1
485584152486. 2
485584152487. 3
485584152488. 4

Question Number : 408 Question Id : 48558438123 Question Type : MCQ Option Shuffling : No Is Question Mandatory : No Calculator : None Response Time : N.A Think Time : N.A Minimum Instruction Time : 0

Correct Marks : 5 Wrong Marks : 1

Question Key Details :

Key	Value
Comprehension	MCQ4

What is the full form of OGD?

1. Open Governance Data
2. Open Government Data
3. Only Government Data
4. Open Government Digital

Options :

485584152489. 1
485584152490. 2
485584152491. 3
485584152492. 4

Question Number : 408 Question Id : 48558438123 Question Type : MCQ Option Shuffling : No Is Question Mandatory : No Calculator : None Response Time : N.A Think Time : N.A Minimum Instruction Time : 0

Correct Marks : 5 Wrong Marks : 1

Question Key Details :

Key	Value
Comprehension	MCQ4

OGD का पूर्णरूप है?

1. ओपेन गवर्नेन्स डाटा (Open Governance Data)
2. ओपेन गवर्नमेंट डाटा (Open Government Data)
3. ओनली गवर्नमेंट डाटा (Only Government Data)
4. ओपेन गवर्नमेंट डिजिटल (Open Government Digital)

Options :

485584152489. 1
485584152490. 2
485584152491. 3
485584152492. 4

Question Number : 409 Question Id : 48558438124 Question Type : MCQ Option Shuffling : No Is Question Mandatory : No Calculator : None
Response Time : N.A Think Time : N.A Minimum Instruction Time : 0

Correct Marks : 5 Wrong Marks : 1

Question Key Details :

Key	Value
Comprehension	MCQ4

To define the limit of axes of a chart, which function can be used?

1. xlabel() and ylabel()
2. xticks() and yticks()
3. xlim() and ylim()
4. xlimit() and ylimit()

Options :

485584152493. 1

485584152494. 2

485584152495. 3

485584152496. 4

Question Number : 409 Question Id : 48558438124 Question Type : MCQ Option Shuffling : No Is Question Mandatory : No Calculator : None
Response Time : N.A Think Time : N.A Minimum Instruction Time : 0

Correct Marks : 5 Wrong Marks : 1

Question Key Details :

Key	Value
Comprehension	MCQ4

चार्ट के अक्षों की सीमा परिभाषित करने के लिए कौन-सा फंक्शन उपयोग किया जाता है?

1. xlabel() and ylabel()
2. xticks() and yticks()
3. xlim() and ylim()
4. xlimit() and ylimit()

Options :

485584152493. 1

485584152494. 2

485584152495. 3

485584152496. 4

Question Number : 410 Question Id : 48558438125 Question Type : MCQ Option Shuffling : No Is Question Mandatory : No Calculator : None
Response Time : N.A Think Time : N.A Minimum Instruction Time : 0

Correct Marks : 5 Wrong Marks : 1

Question Key Details :

Key	Value
Comprehension	MCQ4

Match List I with List II

LIST I	LIST II
A. IP Address	I. www.ncert.nic.in
B. URL	II. FC:F8:AE:CE:7B:16
C. Domain Name	III. https://www.cbse.nic.in/skills/subject
D. MAC	IV. 164.100.163.65

Choose the correct answer from the options given below:

1. A-III, B-IV, C-I, D-II
2. A-IV, B-III, C-II, D-I
3. A-IV, B-III, C-I, D-II
4. A-III, B-II, C-I, D-IV

Options :

485584152497. 1
485584152498. 2
485584152499. 3
485584152500. 4

Question Number : 410 Question Id : 48558438125 Question Type : MCQ Option Shuffling : No Is Question Mandatory : No Calculator : None
Response Time : N.A Think Time : N.A Minimum Instruction Time : 0

Correct Marks : 5 Wrong Marks : 1

Question Key Details :

Key	Value
Comprehension	MCQ4

सूची I का सूची II से मिलान कीजिए

सूची I	सूची II
A. आईपी एड्रेस	I. www.ncert.nic.in
B. URL (यूआरएल)	II. FC:F8:AE:CE:7B:16
C. डोमेन नाम	III. https://www.cbse.nic.in/skills/subject
D. MAC (मैक)	IV. 164.100.163.65

निम्नलिखित विकल्पों में से सही उत्तर का चयन कीजिए :

1. A-III, B-IV, C-I, D-II
2. A-IV, B-III, C-II, D-I
3. A-IV, B-III, C-I, D-II
4. A-III, B-II, C-I, D-IV

Options :

485584152497. 1
485584152498. 2
485584152499. 3
485584152500. 4

Question Number : 411 Question Id : 48558438126 Question Type : MCQ Option Shuffling : No Is Question Mandatory : No Calculator : None
Response Time : N.A Think Time : N.A Minimum Instruction Time : 0

Correct Marks : 5 Wrong Marks : 1

Question Key Details :

Key	Value
Comprehension	MCQ4

Modulation is the process of _____

1. Sending a file from one computer to another computer
2. converting digital signals to analog signals
3. converting analog signals to digital signals
4. echoing every character that is received

Options :

- 485584152501. 1
- 485584152502. 2
- 485584152503. 3
- 485584152504. 4

Question Number : 411 Question Id : 48558438126 Question Type : MCQ Option Shuffling : No Is Question Mandatory : No Calculator : None Response Time : N.A Think Time : N.A Minimum Instruction Time : 0

Correct Marks : 5 Wrong Marks : 1

Question Key Details :

Key	Value
Comprehension	MCQ4

माड्यूलेशन _____ की प्रक्रिया है।

1. एक कंप्यूटर से दूसरे कंप्यूटर में फाइल भेजना।
2. डिजिटल सिग्नलों को एनालॉग सिग्नलों में बदलना।
3. एनालॉग सिग्नलों को डिजिटल सिग्नलों में बदलना।
4. प्राप्त होने वाले प्रत्येक कैरेक्टर को प्रतिध्वनित करना।

Options :

- 485584152501. 1
- 485584152502. 2
- 485584152503. 3
- 485584152504. 4

Question Number : 412 Question Id : 48558438127 Question Type : MCQ Option Shuffling : No Is Question Mandatory : No Calculator : None Response Time : N.A Think Time : N.A Minimum Instruction Time : 0

Correct Marks : 5 Wrong Marks : 1

Question Key Details :

Key	Value
Comprehension	MCQ4

Match List I with List II

LIST I	LIST II
A. Mesh	I. nodes connected linearly
B. Bus	II. n connections
C. ring	III. central device connected to all nodes
D. Star	IV. $(n*(n-1))/2$ connections

Choose the correct answer from the options given below:

1. A-II, B-I, C-IV, D-III
2. A-IV, B-I, C-II, D-III
3. A-II, B-IV, C-I, D-III
4. A-I, B-IV, C-II, D-III

Options :

485584152505. 1
485584152506. 2
485584152507. 3
485584152508. 4

Question Number : 412 Question Id : 48558438127 Question Type : MCQ Option Shuffling : No Is Question Mandatory : No Calculator : None Response Time : N.A Think Time : N.A Minimum Instruction Time : 0

Correct Marks : 5 Wrong Marks : 1

Question Key Details :

Key	Value
Comprehension	MCQ4

सूची I का सूची II से मिलान कीजिए

सूची I	सूची II
A. मैश	I. नोड्स तीनिपर (रैखिक) रूप से जुड़े हों
B. बस	II. n कनेक्शन
C. रिंग	III. केन्द्रीय डिवाइस सभी नोड्स से जुड़े हों
D. स्टार	IV. $(n*(n-1))/2$ कनेक्शन

निम्नलिखित विकल्पों में से सही उत्तर का चयन कीजिए :

1. A-II, B-I, C-IV, D-III
2. A-IV, B-I, C-II, D-III
3. A-II, B-IV, C-I, D-III
4. A-I, B-IV, C-II, D-III

Options :

485584152505. 1
485584152506. 2
485584152507. 3
485584152508. 4

Question Number : 413 Question Id : 48558438128 Question Type : MCQ Option Shuffling : No Is Question Mandatory : No Calculator : None Response Time : N.A Think Time : N.A Minimum Instruction Time : 0

Correct Marks : 5 Wrong Marks : 1

Question Key Details :

Key	Value
Comprehension	MCQ4

The number of pins in an RJ45 connector is:

- 1. 5
- 2. 6
- 3. 8
- 4. 10

Options :

- 485584152509. 1
- 485584152510. 2
- 485584152511. 3
- 485584152512. 4

Question Number : 413 Question Id : 48558438128 Question Type : MCQ Option Shuffling : No Is Question Mandatory : No Calculator : None Response Time : N.A Think Time : N.A Minimum Instruction Time : 0

Correct Marks : 5 Wrong Marks : 1

Question Key Details :

Key	Value
Comprehension	MCQ4

आर. जे.45 कनेक्टर में पिनो की संख्या होती है:

- 1. 5
- 2. 6
- 3. 8
- 4. 10

Options :

- 485584152509. 1
- 485584152510. 2
- 485584152511. 3
- 485584152512. 4

Question Number : 414 Question Id : 48558438129 Question Type : MCQ Option Shuffling : No Is Question Mandatory : No Calculator : None Response Time : N.A Think Time : N.A Minimum Instruction Time : 0

Correct Marks : 5 Wrong Marks : 1

Question Key Details :

Key	Value
Comprehension	MCQ4

A sender wants to transmit their data at the rate of 3200 bit-per 16 second. What will be the data rate of the channel?

- 1. 1200 bps
- 2. 200 bps
- 3. 2000 bps
- 4. 3216 bps

Options :

- 485584152513. 1
- 485584152514. 2
- 485584152515. 3
- 485584152516. 4

Question Number : 414 Question Id : 48558438129 Question Type : MCQ Option Shuffling : No Is Question Mandatory : No Calculator : None
Response Time : N.A Think Time : N.A Minimum Instruction Time : 0

Correct Marks : 5 Wrong Marks : 1

Question Key Details :

Key	Value
Comprehension	MCQ4

एक प्रेषक 3200 बिट प्रति सेकेंड की दर से अपना डेटा ट्रांसमिट करना चाहता है। चैनल की डेटा दर क्या होगी?

1. 1200 बिट्स प्रति सेकेंड
2. 200 बिट्स प्रति सेकेंड
3. 2000 बिट्स प्रति सेकेंड
4. 3216 बिट्स प्रति सेकेंड

Options :

- 485584152513. 1
- 485584152514. 2
- 485584152515. 3
- 485584152516. 4

Question Number : 415 Question Id : 48558438130 Question Type : MCQ Option Shuffling : No Is Question Mandatory : No Calculator : None
Response Time : N.A Think Time : N.A Minimum Instruction Time : 0

Correct Marks : 5 Wrong Marks : 1

Question Key Details :

Key	Value
Comprehension	MCQ4

Which of the following is measured in Kbps, Mbps and Gbps?

1. Memory capacity
2. Data Transfer Rate
3. Bandwidth
4. Radio Waves

Options :

- 485584152517. 1
- 485584152518. 2
- 485584152519. 3
- 485584152520. 4

Question Number : 415 Question Id : 48558438130 Question Type : MCQ Option Shuffling : No Is Question Mandatory : No Calculator : None
Response Time : N.A Think Time : N.A Minimum Instruction Time : 0

Correct Marks : 5 Wrong Marks : 1

Question Key Details :

Key	Value
Comprehension	MCQ4

निम्नलिखित में से किसे Kbps, Mbps और Gbps में मापा जाता है?

1. मेमोरी कैपेसिटी
2. डेटा ट्रांसफर रेट
3. बैंडविड्थ
4. रेडियो तरंगें

Options :

- 485584152517. 1
- 485584152518. 2
- 485584152519. 3
- 485584152520. 4

Question Number : 416 Question Id : 48558438131 Question Type : MCQ Option Shuffling : No Is Question Mandatory : No Calculator : None Response Time : N.A Think Time : N.A Minimum Instruction Time : 0

Correct Marks : 5 Wrong Marks : 1

Question Key Details :

Key	Value
Comprehension	MCQ4

The File Transfer Protocol (FTP) requires a reliable transport service. Which protocol of the TCP/IP suite does it use?

1. Transmission Control Protocol (TCP)
2. Simple Mail Transfer Protocol (SMTP)
3. Telnet
4. Hyper Text Transfer Protocol (HTTP)

Options :

- 485584152521. 1
- 485584152522. 2
- 485584152523. 3
- 485584152524. 4

Question Number : 416 Question Id : 48558438131 Question Type : MCQ Option Shuffling : No Is Question Mandatory : No Calculator : None Response Time : N.A Think Time : N.A Minimum Instruction Time : 0

Correct Marks : 5 Wrong Marks : 1

Question Key Details :

Key	Value
Comprehension	MCQ4

फाइल ट्रांसफर प्रोटोकॉल (FTP) के लिए एक विश्वसनीय ट्रांसपोर्ट सर्विस की आवश्यकता होती है। TCP/IP सूट का कौन-सा प्रोटोकॉल उपयोग करता है?

1. ट्रांसमिशन कंट्रोल प्रोटोकॉल (TCP)
2. सिंपल मेल ट्रांसफर प्रोटोकॉल (SMTP)
3. टेलनेट
4. हाइपर टेक्स्ट ट्रांसफर प्रोटोकॉल (HTTP)

Options :

- 485584152521. 1
- 485584152522. 2

485584152523. 3
485584152524. 4

Question Number : 417 Question Id : 48558438132 Question Type : MCQ Option Shuffling : No Is Question Mandatory : No Calculator : None
Response Time : N.A Think Time : N.A Minimum Instruction Time : 0
Correct Marks : 5 Wrong Marks : 1

Question Key Details :

Key	Value
Comprehension	MCQ4

Which of the following are correct about firewall?

- A. Firewall can be implemented only in software
- B. Firewall can be implemented only in hardware
- C. Firewall can be implemented both hardware as well as software
- D. Firewall can be implemented among two or more networks
- E. Firewall act as a first barrier against malware

Choose the correct answer from the options given below:

- 1. A, C, D and E only
- 2. A, B, D and E only
- 3. C, D and E only
- 4. A, C, D and E only

Options :

485584152525. 1
485584152526. 2
485584152527. 3
485584152528. 4

Question Number : 417 Question Id : 48558438132 Question Type : MCQ Option Shuffling : No Is Question Mandatory : No Calculator : None
Response Time : N.A Think Time : N.A Minimum Instruction Time : 0
Correct Marks : 5 Wrong Marks : 1

Question Key Details :

Key	Value
Comprehension	MCQ4

फायरवॉल के बारे में निम्न में से कौन से सही है?

- A. फायरवॉल केवल सॉफ्टवेयर में लागू हो सकता है।
- B. फायरवॉल केवल हार्डवेयर में लागू हो सकता है।
- C. फायरवॉल को हार्डवेयर और सॉफ्टवेयर दोनों में लागू किया जा सकता है।
- D. फायरवॉल को दो या दो से अधिक नेटवर्क के बीच लागू किया जा सकता है।
- E. फायरवॉल प्रथम बैरियर के रूप में मैलवेयर के विरुद्ध कार्य करता है।

नीचे दिए गए विकल्पों में से सही उत्तर का चयन कीजिए:

- 1. केवल A, C, D और E
- 2. केवल A, B, D और E
- 3. केवल C, D और E
- 4. केवल A, C, D और E

Options :

485584152525. 1
485584152526. 2
485584152527. 3

Question Number : 418 Question Id : 48558438133 Question Type : MCQ Option Shuffling : No Is Question Mandatory : No Calculator : None
Response Time : N.A Think Time : N.A Minimum Instruction Time : 0

Correct Marks : 5 Wrong Marks : 1

Question Key Details :

Key	Value
Comprehension	MCQ4

A scenario wherein a hacker limit or stop an authorised user to access service, device or other resource by overloading that resource with illegitimate request -

1. DOS (Denial of Service)
2. Spoofing
3. Eavesdropping
4. Gray hats

Options :

485584152529. 1
 485584152530. 2
 485584152531. 3
 485584152532. 4

Question Number : 418 Question Id : 48558438133 Question Type : MCQ Option Shuffling : No Is Question Mandatory : No Calculator : None
Response Time : N.A Think Time : N.A Minimum Instruction Time : 0

Correct Marks : 5 Wrong Marks : 1

Question Key Details :

Key	Value
Comprehension	MCQ4

एक परिदृश्य जिसमें कोई हैकर सेवा उपकरण या अन्य संसाधन तक पहुँचने के लिए उपयोग किए जाने वाले अधिकार को अवैध अनुरोध के साथ उस संसाधन को ओवरलोड करके सीमित या बंद कर देता है।

1. DOS (डिनायल ऑफ सर्विस)
2. स्पूफिंग
3. इवेसड्रॉपिंग
4. ग्रे हेड्स

Options :

485584152529. 1
 485584152530. 2
 485584152531. 3
 485584152532. 4

Question Number : 419 Question Id : 48558438134 Question Type : MCQ Option Shuffling : No Is Question Mandatory : No Calculator : None
Response Time : N.A Think Time : N.A Minimum Instruction Time : 0

Correct Marks : 5 Wrong Marks : 1

Question Key Details :

Key	Value
Comprehension	MCQ4

When a hacker uses knowledge to find and help in fixing the security flaws in the system is called -

1. Unethical Hacking
2. Ethical Hacking
3. Black Hat Hacking
4. Grey Hat Hacking

Options :

- 485584152533. 1
- 485584152534. 2
- 485584152535. 3
- 485584152536. 4

Question Number : 419 Question Id : 48558438134 Question Type : MCQ Option Shuffling : No Is Question Mandatory : No Calculator : None Response Time : N.A Think Time : N.A Minimum Instruction Time : 0

Correct Marks : 5 Wrong Marks : 1

Question Key Details :

Key	Value
Comprehension	MCQ4

जब कोई हैकर सिस्टम में सुरक्षा खामियों को खोजने और ठीक करने के लिए ज्ञान का उपयोग करता है, तो उसे कहा जाता है-

1. अनइथिकल हैकिंग
2. इथिकल हैकिंग
3. ब्लैक हैट हैकिंग
4. ग्रे हैट हैकिंग

Options :

- 485584152533. 1
- 485584152534. 2
- 485584152535. 3
- 485584152536. 4

Question Number : 420 Question Id : 48558438135 Question Type : MCQ Option Shuffling : No Is Question Mandatory : No Calculator : None Response Time : N.A Think Time : N.A Minimum Instruction Time : 0

Correct Marks : 5 Wrong Marks : 1

Question Key Details :

Key	Value
Comprehension	MCQ4

A _____ is a hardware device or software program that prevents unwanted traffic.

1. Firewall
2. Denial of service (DoS)
3. Malware
4. Virus

Options :

- 485584152537. 1
- 485584152538. 2
- 485584152539. 3
- 485584152540. 4

Question Number : 420 Question Id : 48558438135 Question Type : MCQ Option Shuffling : No Is Question Mandatory : No Calculator : None
Response Time : N.A Think Time : N.A Minimum Instruction Time : 0

Correct Marks : 5 Wrong Marks : 1

Question Key Details :

Key	Value
Comprehension	MCQ4

_____ एक हार्डवेयर डिवाइस या सॉफ्टवेयर प्रोग्राम है जो अनेच्छिक ट्रॉफिक को रोकता है।

1. फायरवॉल
2. डिनायल ऑफ सर्विस (DOS)
3. मेलवेयर
4. वायरस

Options :

485584152537. 1

485584152538. 2

485584152539. 3

485584152540. 4

Sub-Section Number :

2

Sub-Section Id :

4855842921

Question Shuffling Allowed :

No

Is Section Default? :

null

Question Number : 421 Question Id : 48558438136 Question Type : MCQ Option Shuffling : No Is Question Mandatory : No Calculator : None
Response Time : N.A Think Time : N.A Minimum Instruction Time : 0

Correct Marks : 5 Wrong Marks : 1

Question Key Details :

Key	Value
Comprehension	Comp3

Consider the following table and answer the questions that follow:

Teacher

No	Name	Age	Department	Doj	Salary	Sex
1	Jagan	34	Comp	10/1/97	12000	M
2	Shona	31	Hist	24/3/98	NULL	F
3	Sandeep	32	Maths	12/12/98	30000	M
4	Sangita	35	Hist	01/07/99	40000	F
5	Rohit	42	Maths	05/09/97	25000	M
6	Sharma	50	Hist	27/06/98	30000	M
7	Amit	44	Comp	25/02/97	21000	M
8	Girisha	NULL	Maths	31/07/97	20000	F

Choose the correct output of the following SQL query

Select min(Doj) from Teacher;

- 1. 01/07/99
- 2. 25/02/97
- 3. 31/07/97
- 4. 10/1/97

Options :

- 485584152541. 1
- 485584152542. 2
- 485584152543. 3
- 485584152544. 4

Question Number : 421 Question Id : 48558438136 Question Type : MCQ Option Shuffling : No Is Question Mandatory : No Calculator : None Response Time : N.A Think Time : N.A Minimum Instruction Time : 0

Correct Marks : 5 Wrong Marks : 1

Question Key Details :

Key	Value
Comprehension	Comp3

निम्नलिखित तालिका पर विचार करें और दिए गे प्रश्नों के उत्तर दें:

Teacher

No	Name	Age	Department	Doj	Salary	Sex
1	Jagan	34	Comp	10/1/97	12000	M
2	Shona	31	Hist	24/3/98	NULL	F
3	Sandeep	32	Maths	12/12/98	30000	M
4	Sangita	35	Hist	01/07/99	40000	F
5	Rohit	42	Maths	05/09/97	25000	M
6	Sharma	50	Hist	27/06/98	30000	M
7	Amit	44	Comp	25/02/97	21000	M
8	Girisha	NULL	Maths	31/07/97	20000	F

निम्न SQL क्वेरी का सही आउटपुट चुने।

Select min(Doj) from Teacher ;

- 1. 01/07/99
- 2. 25/02/97
- 3. 31/07/97
- 4. 10/1/97

Options :

- 485584152541. 1
- 485584152542. 2
- 485584152543. 3
- 485584152544. 4

Question Number : 422 Question Id : 48558438137 Question Type : MCQ Option Shuffling : No Is Question Mandatory : No Calculator : None
Response Time : N.A Think Time : N.A Minimum Instruction Time : 0

Correct Marks : 5 Wrong Marks : 1

Question Key Details :

Key	Value
Comprehension	Comp3

Consider the following table and answer the questions that follow:

Teacher

No	Name	Age	Department	Doj	Salary	Sex
1	Jagan	34	Comp	10/1/97	12000	M
2	Shona	31	Hist	24/3/98	NULL	F
3	Sandeep	32	Maths	12/12/98	30000	M
4	Sangita	35	Hist	01/07/99	40000	F
5	Rohit	42	Maths	05/09/97	25000	M
6	Sharma	30	Hist	27/06/98	30000	M
7	Amit	44	Comp	25/02/97	21000	M
8	Girisha	NULL	Maths	31/07/97	20000	F

Choose the correct output of the following query

select count(Age) from Teacher;

1. 9

2. 7

3. 8

4. NULL

Options :

485584152545. 1

485584152546. 2

485584152547. 3

485584152548. 4

Question Number : 422 Question Id : 48558438137 Question Type : MCQ Option Shuffling : No Is Question Mandatory : No Calculator : None
Response Time : N.A Think Time : N.A Minimum Instruction Time : 0

Correct Marks : 5 Wrong Marks : 1

Question Key Details :

Key	Value
Comprehension	Comp3

निम्नलिखित तालिका पर विचार करें और दिए गए प्रश्नों के उत्तर दें:

Teacher

No	Name	Age	Department	Doj	Salary	Sex
1	Jagan	34	Comp	10/1/97	12000	M
2	Shona	31	Hist	24/3/98	NULL	F
3	Sandeep	32	Maths	12/12/98	30000	M
4	Sangita	35	Hist	01/07/99	40000	F
5	Rohit	42	Maths	05/09/97	25000	M
6	Sharma	50	Hist	27/06/98	30000	M
7	Amit	44	Comp	25/02/97	21000	M
8	Girisha	NULL	Maths	31/07/97	20000	F

निम्न क्वेरी का सही आउटपुट चुनें

select count(Age) from Teacher;

1. 9
2. 7
3. 8
4. NULL

Options :

485584152545. 1
485584152546. 2
485584152547. 3
485584152548. 4

Question Number : 423 Question Id : 48558438138 Question Type : MCQ Option Shuffling : No Is Question Mandatory : No Calculator : None Response Time : N.A Think Time : N.A Minimum Instruction Time : 0

Correct Marks : 5 Wrong Marks : 1

Question Key Details :

Key	Value
Comprehension	Comp3

Consider the following table and answer the questions that follow:

Teacher

No	Name	Age	Department	Doj	Salary	Sex
1	Jagan	34	Comp	10/1/97	12000	M
2	Shona	31	Hist	24/3/98	NULL	F
3	Sandeep	32	Maths	12/12/98	30000	M
4	Sangita	35	Hist	01/07/99	40000	F
5	Rohit	42	Maths	05/09/97	25000	M
6	Sharma	50	Hist	27/06/98	30000	M
7	Amit	44	Comp	25/02/97	21000	M
8	Girisha	NULL	Maths	31/07/97	20000	F

Choose the correct query to display Names of Teachers along with Salary of those Teachers who are in History department?

1. Select Name from Teacher where Department = 'History';
2. Select Name, Salary from Teacher where Department = 'Hist';
3. Select Name, Salary from Teacher where Department = 'History';
4. Select Salary from Teacher where Department = 'Hist';

Options :

485584152549. 1
485584152550. 2
485584152551. 3
485584152552. 4

Question Number : 423 Question Id : 48558438138 Question Type : MCQ Option Shuffling : No Is Question Mandatory : No Calculator : None Response Time : N.A Think Time : N.A Minimum Instruction Time : 0

Correct Marks : 5 Wrong Marks : 1

Question Key Details :

Key	Value
Comprehension	Comp3

निम्नलिखित तालिका पर विचार करें और दिए गए प्रश्नों के उत्तर दें:

Teacher						
No	Name	Age	Department	Doj	Salary	Sex
1	Jagan	34	Comp	10/1/97	12000	M
2	Shona	31	Hist	24/3/98	NULL	F
3	Sandeep	32	Maths	12/12/98	30000	M
4	Sangita	35	Hist	01/07/99	40000	F
5	Rohit	42	Maths	05/09/97	25000	M
6	Sharma	50	Hist	27/06/98	30000	M
7	Amit	44	Comp	25/02/97	21000	M
8	Girisha	NULL	Maths	31/07/97	20000	F

उन शिक्षकों (teachers) के वेतन (Salary) के साथ-साथ शिक्षकों के नाम प्रदर्शित करने के लिए सही क्वेरी चुनें जो History department में है?

1. Select Name from Teacher where Department = 'History';
2. Select Name, Salary from Teacher where Department = 'Hist';
3. Select Name, Salary from Teacher where Department = 'History';
4. Select Salary from Teacher where Department = 'Hist';

Options :

485584152549. 1
485584152550. 2
485584152551. 3
485584152552. 4

Question Number : 424 Question Id : 48558438139 Question Type : MCQ Option Shuffling : No Is Question Mandatory : No Calculator : None Response Time : N.A Think Time : N.A Minimum Instruction Time : 0

Correct Marks : 5 Wrong Marks : 1

Question Key Details :

Key	Value
Comprehension	Comp3

Consider the following table and answer the questions that follow:

Teacher

No	Name	Age	Department	Doj	Salary	Sex
1	Jagan	34	Comp	10/1/97	12000	M
2	Shona	31	Hist	24/3/98	NULL	F
3	Sandeep	32	Maths	12/12/98	30000	M
4	Sangita	35	Hist	01/07/99	40000	F
5	Rohit	42	Maths	05/09/97	25000	M
6	Sharma	50	Hist	27/06/98	30000	M
7	Amit	44	Comp	25/02/97	21000	M
8	Girisha	NULL	Maths	31/07/97	20000	F

Suppose the teacher with No = 7 left the school, suggest the correct query to delete that record from the teacher table:

1. Delete from Teacher;
2. Delete from Teacher where No = 7;
3. Delete from Teacher, where No = '7';
4. Delete * from Teacher where No = 7;

Options :

- 485584152553. 1
- 485584152554. 2
- 485584152555. 3
- 485584152556. 4

Question Number : 424 Question Id : 48558438139 Question Type : MCQ Option Shuffling : No Is Question Mandatory : No Calculator : None Response Time : N.A Think Time : N.A Minimum Instruction Time : 0

Correct Marks : 5 Wrong Marks : 1

Question Key Details :

Key	Value
Comprehension	Comp3

निम्नलिखित तालिका पर विचार करें और दिए गे प्रश्नों के उत्तर दें:

Teacher

No	Name	Age	Department	Doj	Salary	Sex
1	Jagan	34	Comp	10/1/97	12000	M
2	Shona	31	Hist	24/3/98	NULL	F
3	Sandeep	32	Maths	12/12/98	30000	M
4	Sangita	35	Hist	01/07/99	40000	F
5	Rohit	42	Maths	05/09/97	25000	M
6	Sharma	50	Hist	27/06/98	30000	M
7	Amit	44	Comp	25/02/97	21000	M
8	Girisha	NULL	Maths	31/07/97	20000	F

मान ले कि नंबर = 7 वाले स्कूल टिचर ने स्कूल छोड़ दिया है। teacher टेबल से उस रिकार्ड को हटाने के लिए सही क्वेरी का सुझाव दें।

1. Delete from Teacher;
2. Delete from Teacher where No = 7;
3. Delete from Teacher, where No = '7';
4. Delete * from Teacher where No = 7;

Options :

485584152553. 1
485584152554. 2
485584152555. 3
485584152556. 4

Question Number : 425 Question Id : 48558438140 Question Type : MCQ Option Shuffling : No Is Question Mandatory : No Calculator : None Response Time : N.A Think Time : N.A Minimum Instruction Time : 0

Correct Marks : 5 Wrong Marks : 1

Question Key Details :

Key	Value
Comprehension	Comp3

Consider the following table and answer the questions that follow:

Teacher

No	Name	Age	Department	Doj	Salary	Sex
1	Jagan	34	Comp	10/1/97	12000	M
2	Shona	31	Hist	24/3/98	NULL	F
3	Sandeep	32	Maths	12/12/98	30000	M
4	Sangita	35	Hist	01/07/99	40000	F
5	Rohit	42	Maths	05/09/97	25000	M
6	Sharma	50	Hist	27/06/98	30000	M
7	Amit	44	Comp	25/02/97	21000	M
8	Girisha	NULL	Maths	31/07/97	20000	F

Choose the correct statement with reference to SQL table Teacher

- A. Alter table Teacher is used to make changes in the structure of the table
- B. Update Teacher is used to modify existing data in the table
- C. Desc Teacher will display the tuples in sorted order
- D. Select * from Teacher will display all the attributes along with their data types;

Choose the correct answer from the options given below:

- 1. A, B and D only
- 2. C and D only
- 3. A and D only
- 4. B, C and D only

Options :

- 485584152557. 1
- 485584152558. 2
- 485584152559. 3
- 485584152560. 4

Question Number : 425 Question Id : 48558438140 Question Type : MCQ Option Shuffling : No Is Question Mandatory : No Calculator : None Response Time : N.A Think Time : N.A Minimum Instruction Time : 0

Correct Marks : 5 Wrong Marks : 1

Question Key Details :

Key	Value
Comprehension	Comp3

निम्नलिखित तालिका पर विचार करें और दिए गे प्रश्नों के उत्तर दें:

Teacher						
No	Name	Age	Department	Doj	Salary	Sex
1	Jagan	34	Comp	10/1/97	12000	M
2	Shona	31	Hist	24/3/98	NULL	F
3	Sandeep	32	Maths	12/12/98	30000	M
4	Sangita	35	Hist	01/07/99	40000	F
5	Rohit	42	Maths	05/09/97	25000	M
6	Sharma	50	Hist	27/06/98	30000	M
7	Amit	44	Comp	25/02/97	21000	M
8	Girisha	NULL	Maths	31/07/97	20000	F

Choose the correct statement with reference to SQL table Teacher

- A. टेबल का संरचना में परिवर्तन करने के लिए Alter table Teacher का उपयोग किया जाता है।
- B. Update Teacher का प्रयोग टेबल में उपस्थित/निहित डाटा को बदलने के लिए किया जाता है।
- C. Desc Teacher अनुक्रम ऑर्डर में टेपल को प्रदर्शित करेगा।
- D. Select * from Teacher सभी ऐट्रीब्यूट के साथ उनके डाटा टाइप को प्रदर्शित करेगा।

नीचे दिए गए विकल्पों में से सही उत्तर दीजिए :

- 1. केवल A, B और D
- 2. केवल C और D
- 3. केवल A और D
- 4. केवल B, C और D

Options :

- 485584152557. 1
- 485584152558. 2
- 485584152559. 3
- 485584152560. 4

Sub-Section Number : 3
Sub-Section Id : 4855842922
Question Shuffling Allowed : No
Is Section Default? : null

Question Number : 426 Question Id : 48558438141 Question Type : MCQ Option Shuffling : No Is Question Mandatory : No Calculator : None
Response Time : N.A Think Time : N.A Minimum Instruction Time : 0

Correct Marks : 5 Wrong Marks : 1

Question Key Details :

Key	Value
Comprehension	Comp4

Consider the following paragraph and answer the questions that follow:

Mohan keeps working on various IT projects. He is continuously online for many hours. Many a times while working on various softwares, he is required to share his personal/sensitive information like mobile number, date of birth etc. He has started facing a number of problems while working on his computer.

- 1. His bank account showed a debit transaction of ₹ 50,000, which was not done by him.
- 2. He cannot open some of the applications.
- 3. He has started getting junk emails.
- 4. Many a times unwanted advertisements have started popping up onto his computer.
- 5. He has started getting backache, shoulder pain and stress.

The unwanted and unnecessary advertisements that have started popping up on his system. According to you, which of the following may be the reason?

- 1. Virus
- 2. Trojan
- 3. Adware
- 4. Hacking

Options :

- 485584152561. 1
- 485584152562. 2
- 485584152563. 3

Question Number : 426 Question Id : 48558438141 Question Type : MCQ Option Shuffling : No Is Question Mandatory : No Calculator : None
Response Time : N.A Think Time : N.A Minimum Instruction Time : 0

Correct Marks : 5 Wrong Marks : 1

Question Key Details :

Key	Value
Comprehension	Comp4

मोहन विभिन्न आई टी परियोजनाओं पर काम करता रहता है। वह कई घंटों तक लगातार ऑनलाइन रहता है। कई बार विभिन्न सॉफ्टवेयर पर काम करते समय, उन्हें अपनी व्यक्तिगत जानकारी जैसे नंबर, जन्मतिथि आदि साझा की आवश्यकता होती है। उन्हें अपने कंप्यूटर पर काम करते समय कई समस्याओं का सामना करना पड़ता है।

1. उनके बैंक खाते में ₹ 50,000 का डेबिट लेनदेन दिखा, जो उनके द्वारा नहीं किया गया।
2. वह कुछ एप्लिकेशनों को नहीं खोल सकता है।
3. उसे जंक ई-मेल आने लगे हैं।
4. कई बार अवांछित विज्ञापन उसके कंप्यूटर में पॉप-अप होने शुरू हो चुके हैं।
5. उसको पीठ दर्द, कंधे में दर्द और तनाव शुरू हो गया है।

गैर-जरूरी और अनावश्यक विज्ञापन जो इस प्रणाली पर उभरने लगे हैं। आपके अनुसार निम्नलिखित कौन-सा कारण हो सकता है?

1. वायरस
2. ट्रोजन
3. ऐडवेयर
4. हैकिंग

Options :

485584152561. 1
485584152562. 2
485584152563. 3
485584152564. 4

Question Number : 427 Question Id : 48558438142 Question Type : MCQ Option Shuffling : No Is Question Mandatory : No Calculator : None
Response Time : N.A Think Time : N.A Minimum Instruction Time : 0

Correct Marks : 5 Wrong Marks : 1

Question Key Details :

Key	Value
Comprehension	Comp4

Consider the following paragraph and answer the questions that follow:

Mohan keeps working on various IT projects. He is continuously online for many hours. Many a times while working on various softwares, he is required to share his personal/sensitive information like mobile number, date of birth etc. He has started facing a number of problems while working on his computer.

1. His bank account showed a debit transaction of ₹ 50,000, which was not done by him.
2. He cannot open some of the applications.
3. He has started getting junk emails.
4. Many a times unwanted advertisements have started popping up onto his computer.
5. He has started getting backache, shoulder pain and stress.

As his account was hacked and a debit transaction was made in his bank account. What do you suggest him to install?

1. Router
2. Firewall
3. Antivirus
4. Modem

Options :

485584152565. 1
485584152566. 2
485584152567. 3
485584152568. 4

Question Number : 427 Question Id : 48558438142 Question Type : MCQ Option Shuffling : No Is Question Mandatory : No Calculator : None Response Time : N.A Think Time : N.A Minimum Instruction Time : 0

Correct Marks : 5 Wrong Marks : 1

Question Key Details :

Key	Value
Comprehension	Comp4

मोहन विभिन्न आई टी परिपोजनाओं पर काम करता रहता है। वह कई घंटों तक लगातार ऑनलाइन रहता है। कई बार विभिन्न सॉफ्टवेयर पर काम करते समय, उन्हें अपनी व्यक्तिगत जानकारी जैसे नंबर, जन्मतिथि आदि साझा की आवश्यकता होती है। उन्हें अपने कंप्यूटर पर काम करते समय कई समस्याओं का सामना करना पड़ता है।

1. उनके बैंक खाते में ₹ 50,000 का डेबिट लेनदेन दिखा, जो उनके द्वारा नहीं किया गया।
2. वह कुछ एप्लीकेशनों को नहीं खोल सकता है।
3. उसे जंक ई-मेल आने लगे हैं।
4. कई बार अवांछित विज्ञापन उसके कंप्यूटर में पॉप-अप होने शुरू हो चुके हैं।
5. उसको पीठ दर्द, कंधे में दर्द और तनाव शुरू हो गया है।

चूंकि उसका खाता हैक कर लिया गया था और उसके बैंक खाते में डेबिट लेनदेन किया गया था। आप उसे क्या ईस्टॉल करने का सुझाव देते हैं?

1. राउटर
2. फायरवॉल
3. एंटीवायरस
4. मोडेम

Options :

485584152565. 1
485584152566. 2
485584152567. 3
485584152568. 4

Question Number : 428 Question Id : 48558438143 Question Type : MCQ Option Shuffling : No Is Question Mandatory : No Calculator : None Response Time : N.A Think Time : N.A Minimum Instruction Time : 0

Correct Marks : 5 Wrong Marks : 1

Question Key Details :

Key	Value
Comprehension	Comp4

Consider the following paragraph and answer the questions that follow:

Mohan keeps working on various IT projects. He is continuously online for many hours. Many a times while working on various softwares, he is required to share his personal/sensitive information like mobile number, date of birth etc. He has started facing a number of problems while working on his computer.

1. His bank account showed a debit transaction of ₹ 50,000, which was not done by him.
2. He cannot open some of the applications.
3. He has started getting junk emails.
4. Many a times unwanted advertisements have started popping up onto his computer.
5. He has started getting backache, shoulder pain and stress.

He has started facing health issues, These can be resolved by arranging and designing the workplace including furniture and system. These changes come under which of the following branch of science?

1. Carcinogenic
2. Leaching
3. e-waste management
4. Ergonomics

Options :

485584152569. 1
485584152570. 2
485584152571. 3
485584152572. 4

Question Number : 428 Question Id : 48558438143 Question Type : MCQ Option Shuffling : No Is Question Mandatory : No Calculator : None Response Time : N.A Think Time : N.A Minimum Instruction Time : 0

Correct Marks : 5 Wrong Marks : 1

Question Key Details :

Key	Value
Comprehension	Comp4

मोहन विभिन्न आई टी परिपोजनाओं पर काम करता रहता है। वह कई घंटों तक लगातार ऑनलाइन रहता है। कई बार विभिन्न सॉफ्टवेयर पर काम करते समय, उन्हें अपनी व्यक्तिगत जानकारी जैसे नंबर, जन्मतिथि आदि साझा की आवश्यकता होती है। उन्हें अपने कंप्यूटर पर काम करते समय कई समस्याओं का सामना करना पड़ता है।

1. उनके बैंक खाते में ₹ 50,000 का डेबिट लेनदेन दिखा, जो उनके द्वारा नहीं किया गया।
2. वह कुछ एप्लीकेशनों को नहीं खोल सकता है।
3. उसे जंक ई-मेल आने लगे हैं।
4. कई बार अवांछित विज्ञापन उसके कंप्यूटर में पॉप-अप होने शुरू हो चुके हैं।
5. उसको पीठ दर्द, कंधे में दर्द और तनाव शुरू हो गया है।

उन्होंने स्वास्थ्य संबंधी समस्याओं का सामना करना शुरू कर दिया है। फर्नीचर और सिस्टम सहित कार्यस्थल व्यवस्था और डिजाइन करके हल किया जा सकता है। ये परिवर्तन विज्ञान की निम्नलिखित में से किस शाखा के अंतर्गत आते हैं?

1. कार्सिनोजेनिक
2. लीचिंग
3. ई-कचरा प्रबंधन
4. श्रमदक्षताशास्त्र

Options :

485584152569. 1
485584152570. 2

485584152571. 3

485584152572. 4

Question Number : 429 Question Id : 48558438144 Question Type : MCQ Option Shuffling : No Is Question Mandatory : No Calculator : None Response Time : N.A Think Time : N.A Minimum Instruction Time : 0

Correct Marks : 5 Wrong Marks : 1

Question Key Details :

Key	Value
Comprehension	Comp4

Consider the following paragraph and answer the questions that follow:

Mohan keeps working on various IT projects. He is continuously online for many hours. Many a times while working on various softwares, he is required to share his personal/sensitive information like mobile number, date of birth etc. He has started facing a number of problems while working on his computer.

1. His bank account showed a debit transaction of ₹ 50,000, which was not done by him.
2. He cannot open some of the applications.
3. He has started getting junk emails.
4. Many a times unwanted advertisements have started popping up onto his computer.
5. He has started getting backache, shoulder pain and stress.

Mohan is blocked from accessing data and some money is demanded. This is an example of -

1. Trojan attack
2. adware
3. Malware
4. Ransomware

Options :

485584152573. 1

485584152574. 2

485584152575. 3

485584152576. 4

Question Number : 429 Question Id : 48558438144 Question Type : MCQ Option Shuffling : No Is Question Mandatory : No Calculator : None Response Time : N.A Think Time : N.A Minimum Instruction Time : 0

Correct Marks : 5 Wrong Marks : 1

Question Key Details :

Key	Value
Comprehension	Comp4

मोहन विभिन्न आई टी परियोजनाओं पर काम करता रहता है। वह कई घंटों तक लगातार ऑनलाइन रहता है। कई बार विभिन्न सॉफ्टवेयर पर काम करते समय, उन्हें अपनी व्यक्तिगत जानकारी जैसे नंबर, जन्मतिथि आदि साझा की आवश्यकता होती है। उन्हें अपने कंप्यूटर पर काम करते समय कई समस्याओं का सामना करना पड़ता है।

1. उनके बैंक खाते में ₹ 50,000 का डेबिट लेनदेन दिखा, जो उनके द्वारा नहीं किया गया।
2. वह कुछ एप्लिकेशनों को नहीं खोल सकता है।
3. उसे जंक ई-मेल आने लगे हैं।
4. कई बार अवांछित विज्ञापन उसके कंप्यूटर में पॉप-अप होने शुरू हो चुके हैं।
5. उसको पीठ दर्द, कंधे में दर्द और तनाव शुरू हो गया है।

मोहन को डेटा एक्सेस करने से रोक दिया जाता है और कुछ पैसों की मांग की जाती है। यह एक उदाहरण है-

1. ट्वोजन अटेक
2. ऐडवेयर
3. मेलवेयर
4. रेन्समवेयर

Options :

485584152573. 1
485584152574. 2
485584152575. 3
485584152576. 4

Question Number : 430 Question Id : 48558438145 Question Type : MCQ Option Shuffling : No Is Question Mandatory : No Calculator : None Response Time : N.A Think Time : N.A Minimum Instruction Time : 0

Correct Marks : 5 Wrong Marks : 1

Question Key Details :

Key	Value
Comprehension	Comp4

Consider the following paragraph and answer the questions that follow:

Mohan keeps working on various IT projects. He is continuously online for many hours. Many a times while working on various softwares, he is required to share his personal/sensitive information like mobile number, date of birth etc. He has started facing a number of problems while working on his computer.

1. His bank account showed a debit transaction of ₹ 50,000, which was not done by him.
2. He cannot open some of the applications.
3. He has started getting junk emails.
4. Many a times unwanted advertisements have started popping up onto his computer.
5. He has started getting backache, shoulder pain and stress.

As Mohan remains online continuously for hours, what is he leaving on the internet?

1. Digital footprints
2. Digital Handprints
3. Offline Footprints
4. Online Handprints

Options :

485584152577. 1
485584152578. 2
485584152579. 3
485584152580. 4

Question Number : 430 Question Id : 48558438145 Question Type : MCQ Option Shuffling : No Is Question Mandatory : No Calculator : None Response Time : N.A Think Time : N.A Minimum Instruction Time : 0

Correct Marks : 5 Wrong Marks : 1

Question Key Details :

Key	Value
Comprehension	Comp4

मोहन विभिन्न आई टी परियोजनाओं पर काम करता रहता है। वह कई घंटों तक लगातार ऑनलाइन रहता है। कई बार विभिन्न सॉफ्टवेयर पर काम करते समय उन्हें अपनी व्यक्तिगत जानकारी जैसे नंबर, जन्मतिथि आदि साक्षा की आवश्यकता होती है। उन्हें अपने कंप्यूटर पर काम करते समय कई समस्याओं का सामना करना पड़ता है।

1. उनके बैंक खाते में ₹ 50,000 का डेबिट लेनदेन दिखा, जो उनके द्वारा नहीं किया गया।
2. वह कुछ एप्लिकेशनों को नहीं खोल सकता है।
3. उसे जंक ई-मेल आने लगे हैं।
4. कई बार अवांछित विज्ञापन उसके कंप्यूटर में पॉप-अप होने शुरू हो चुके हैं।
5. उसको पीठ दर्द, कंधे में दर्द और तनाव शुरू हो गया है।

चूंकि मोहन लगातार घंटों तक ऑनलाइन रहता है, वह इंटरनेट पर क्या छोड़ रहा है?

1. डिजिटल पदचिन्ह
2. डिजिटल हाथ के निशान
3. ऑफलाइन पदचिन्ह
4. ऑनलाइन हाथ के निशान

Options :

485584152577. 1
485584152578. 2
485584152579. 3
485584152580. 4

Sub-Section Number : 4
Sub-Section Id : 4855842923
Question Shuffling Allowed : Yes
Is Section Default? : null

Question Number : 431 **Question Id :** 48558438146 **Question Type :** MCQ **Option Shuffling :** No **Is Question Mandatory :** No **Calculator :** None
Response Time : N.A **Think Time :** N.A **Minimum Instruction Time :** 0

Correct Marks : 5 **Wrong Marks :** 1

Question Key Details :

Key	Value
Comprehension	MCQ5

The purpose of attribute dataframe.dtypes is:

1. To display data type of each column in the dataframe.
2. To display a tuple representing the dimensionality of the dataframe.
3. To display the first n rows in the dataframe.
4. To display the last n rows in the dataframe.

Options :

485584152581. 1
485584152582. 2
485584152583. 3
485584152584. 4

Question Number : 431 **Question Id :** 48558438146 **Question Type :** MCQ **Option Shuffling :** No **Is Question Mandatory :** No **Calculator :** None
Response Time : N.A **Think Time :** N.A **Minimum Instruction Time :** 0

Correct Marks : 5 **Wrong Marks :** 1

Question Key Details :

Key	Value
Comprehension	MCQ5

एट्रीब्यूट dataframe.dtypes का उद्देश्य है:

1. डेटाफ्रेम के प्रत्येक कॉलम के डेटा टाइप को प्रदर्शित करने के लिए
2. डेटाफ्रेम के आयामों का प्रतिनिधित्व करने वाला टपल को प्रदर्शित करने के लिए
3. डेटाफ्रेम में पहली n पंक्तियों को प्रदर्शित करने के लिए
4. डेटाफ्रेम में अंतिम n पंक्तियों को प्रदर्शित करने के लिए

Options :

- 485584152581. 1
- 485584152582. 2
- 485584152583. 3
- 485584152584. 4

Question Number : 432 Question Id : 48558438147 Question Type : MCQ Option Shuffling : No Is Question Mandatory : No Calculator : None Response Time : N.A Think Time : N.A Minimum Instruction Time : 0

Correct Marks : 5 Wrong Marks : 1

Question Key Details :

Key	Value
Comprehension	MCQ5

Match List I with List II

LIST I		LIST II	
A.	Dataframe.min()	I.	Display the total number of values for each columns or row of a dataframe
B.	Dataframe.sum()	II.	Display the sum of the values from the dataframe
C.	Dataframe.count()	III.	Display the middle value of the data
D.	Dataframe.median()	IV.	Display the minimum values from the dataframe

Choose the correct answer from the options given below:

1. A-II, B-I, C-IV, D-III
2. A-I, B-II, C-IV, D-III
3. A-III, B-IV, C-I, D-II
4. A-IV, B-II, C-I, D-III

Options :

- 485584152585. 1
- 485584152586. 2
- 485584152587. 3
- 485584152588. 4

Question Number : 432 Question Id : 48558438147 Question Type : MCQ Option Shuffling : No Is Question Mandatory : No Calculator : None Response Time : N.A Think Time : N.A Minimum Instruction Time : 0

Correct Marks : 5 Wrong Marks : 1

Question Key Details :

Key	Value
Comprehension	MCQ5

सूची I का सूची II से मिलान कीजिए

सूची I		सूची II	
A. <code>Dataframe.min()</code>	I.	प्रत्येक कॉलम के मानों की कुल संख्या या एक डेटाफ्रेम की पंक्तियों को प्रदर्शित करना	
B. <code>Dataframe.sum()</code>	II.	डेटाफ्रेम से मानों का योग प्रदर्शित करना	
C. <code>Dataframe.count()</code>	III.	डेटा का मध्यमान प्रदर्शित करना	
D. <code>Dataframe.median()</code>	IV.	डेटाफ्रेम से न्यूनतम मान प्रदर्शित करना	

निम्नलिखित विकल्पों में से सही उत्तर का चयन कीजिए :

1. A-II, B-I, C-IV, D-III
2. A-I, B-II, C-IV, D-III
3. A-III, B-IV, C-I, D-II
4. A-IV, B-II, C-I, D-III

Options :

485584152585. 1
485584152586. 2
485584152587. 3
485584152588. 4

Question Number : 433 Question Id : 48558438148 Question Type : MCQ Option Shuffling : No Is Question Mandatory : No Calculator : None Response Time : N.A Think Time : N.A Minimum Instruction Time : 0

Correct Marks : 5 Wrong Marks : 1

Question Key Details :

Key	Value
Comprehension	MCQ5

Which of the following is a Frequency range of Radio waves?

1. 3 KHz - 1 GHz
2. 1 GHz - 300 GHz
3. 300 GHz - 400 THz
4. 400 THz - 900 THz

Options :

485584152589. 1
485584152590. 2
485584152591. 3
485584152592. 4

Question Number : 433 Question Id : 48558438148 Question Type : MCQ Option Shuffling : No Is Question Mandatory : No Calculator : None Response Time : N.A Think Time : N.A Minimum Instruction Time : 0

Correct Marks : 5 Wrong Marks : 1

Question Key Details :

Key	Value
Comprehension	MCQ5

निम्नलिखित में से कौन-सा रेडियो तरंगों की आवृत्ति रेंज है?

1. 3 KHz - 1 GHz
2. 1 GHz - 300 GHz
3. 300 GHz - 400 THz
4. 400 THz - 900 THz

Options :

485584152589. 1
485584152590. 2
485584152591. 3
485584152592. 4

Question Number : 434 Question Id : 48558438149 Question Type : MCQ Option Shuffling : No Is Question Mandatory : No Calculator : None Response Time : N.A Think Time : N.A Minimum Instruction Time : 0

Correct Marks : 5 Wrong Marks : 1

Question Key Details :

Key	Value
Comprehension	MCQ5

The e-banking page logged out automatically by _____.

1. Authentication cookies
2. Session cookies
3. Super cookies
4. Zombie cookies

Options :

485584152593. 1
485584152594. 2
485584152595. 3
485584152596. 4

Question Number : 434 Question Id : 48558438149 Question Type : MCQ Option Shuffling : No Is Question Mandatory : No Calculator : None Response Time : N.A Think Time : N.A Minimum Instruction Time : 0

Correct Marks : 5 Wrong Marks : 1

Question Key Details :

Key	Value
Comprehension	MCQ5

ई-बैंकिंग पेज _____ द्वारा स्वचलित रूप से लॉग आउट हो गया।

1. ऑथेंटिकेशन कूकीज़
2. सेशन कूकीज़
3. सुपर कूकीज़
4. ज़ोम्बी कूकीज़

Options :

485584152593. 1
485584152594. 2
485584152595. 3
485584152596. 4

Question Number : 435 Question Id : 48558438150 Question Type : MCQ Option Shuffling : No Is Question Mandatory : No Calculator : None Response Time : N.A Think Time : N.A Minimum Instruction Time : 0

Correct Marks : 5 Wrong Marks : 1

Question Key Details :

Key	Value
Comprehension	MCQ5

Which of the following is correct code to plot line Chart with dotted linestyle?

1.

```
plt.plot(x, y)
plt.linestyle = "dotted"
plt.show()
```
2.

```
plt.plot(x, y
plt.linestyle | "dotted")
plt.show()
```
3.

```
plt.plot(x, y), linestyle = dotted)
plt.show()
```
4.

```
plt.plot(x, y, linestyle = "dotted")
plt.show()
```

Options :

- 485584152597. 1
- 485584152598. 2
- 485584152599. 3
- 485584152600. 4

Question Number : 435 Question Id : 48558438150 Question Type : MCQ Option Shuffling : No Is Question Mandatory : No Calculator : None Response Time : N.A Think Time : N.A Minimum Instruction Time : 0

Correct Marks : 5 Wrong Marks : 1

Question Key Details :

Key	Value
Comprehension	MCQ5

निम्नलिखित में से कौन-सा डॉटेड लाइन स्टाइल के साथ लाइन चार्ट प्लॉट करने के लिए सही कोड है?

1.

```
plt.plot(x, y)
plt.linestyle = "dotted"
plt.show()
```
2.

```
plt.plot(x, y
plt.linestyle | "dotted")
plt.show()
```
3.

```
plt.plot(x, y), linestyle = dotted)
plt.show()
```
4.

```
plt.plot(x, y, linestyle = "dotted")
plt.show()
```

Options :

- 485584152597. 1

485584152598.2
485584152599.3
485584152600.4

Economics

Group Number : 10
Group Id : 485584891
Group Maximum Duration : 60
Group Minimum Duration : 60
Show Attended Group? : No
Edit Attended Group? : No
Break time : 0
Group Marks : 200
Is this Group for Examiner? : No
Examiner permission : Cant View
Show Progress Bar? : No

Economics

Section Id : 4855841033
Section Number : 1
Section type : Online
Mandatory or Optional : Mandatory
Number of Questions : 50
Number of Questions to be attempted : 40
Section Marks : 200
Enable Mark as Answered Mark for Review and Clear Response : Yes
Maximum Instruction Time : 0
Sub-Section Number : 1
Sub-Section Id : 4855842924
Question Shuffling Allowed : Yes
Is Section Default? : null

Question Number : 436 Question Id : 48558438151 Question Type : MCQ Option Shuffling : No Is Question Mandatory : No Calculator : None Response Time : N.A Think Time : N.A Minimum Instruction Time : 0

Correct Marks : 5 Wrong Marks : 1

Question Key Details :

Key	Value
Comprehension	MCQ

Production possibility curve shifts rightward, when-

1. Population of the country increases
2. Technology becomes absolute
3. There are massive unemployment
4. Resources increase or technology is upgraded

Options :

485584152601.1
485584152602.2
485584152603.3
485584152604.4

Question Number : 436 Question Id : 48558438151 Question Type : MCQ Option Shuffling : No Is Question Mandatory : No Calculator : None Response Time : N.A Think Time : N.A Minimum Instruction Time : 0

Correct Marks : 5 Wrong Marks : 1

Question Key Details :

Key	Value
-----	-------

उत्पादन संभावना वक्र में दाहिनी ओर खिसकाव कब होता है।

1. देश की जनसंख्या बढ़ती है
2. तकनीक निर्धारित हो जाता है
3. विशाल बेरोजगारी होती है
4. संसाधनों में वृद्धि होती है अथवा तकनीक में सुधार होता है

Options :

485584152601. 1
485584152602. 2
485584152603. 3
485584152604. 4

Question Number : 437 Question Id : 48558438152 Question Type : MCQ Option Shuffling : No Is Question Mandatory : No Calculator : None Response Time : N.A Think Time : N.A Minimum Instruction Time : 0

Correct Marks : 5 Wrong Marks : 1

Question Key Details :

Key	Value
Comprehension	MCQ

Consider the followings facts related to development experience of Indian Economy during 1947 to 2022.

- A. Between 1950 and 1990, the proportion of GDP contributed by agriculture sector has declined
- B. P.C. Mahalanobis is known as Architect of Indian Planning.
- C. The world Bank is also known as IFCI
- D. GATT was established in 1958
- E. Indian Foreign Exchange Reserves have increased since 1990-91.

Choose the correct answer from the options given below:

1. A and E only
2. B and D only
3. A, B and E only
4. B, D and E only

Options :

485584152605. 1
485584152606. 2
485584152607. 3
485584152608. 4

Question Number : 437 Question Id : 48558438152 Question Type : MCQ Option Shuffling : No Is Question Mandatory : No Calculator : None Response Time : N.A Think Time : N.A Minimum Instruction Time : 0

Correct Marks : 5 Wrong Marks : 1

Question Key Details :

Key	Value
Comprehension	MCQ

भारतीय अर्थव्यवस्था के विकास के अनुभवों का 1947 से 2022 तक के निम्नलिखित तथ्यों पर विचार कीजिए:

- A. 1950 से 1990 के बीच जी. डी. पी. में कृषि क्षेत्र का योगदान घटा।
- B. पी. सी. महालनोबिस को भारतीय योजना का शिल्पकार कहा जाता है।
- C. विश्व बैंक को आई. एफ. सी. आई. के नाम से भी जाना जाता है।
- D. जी. ए. टी. टी. की स्थापना 1958 में हुई।
- E. भारतीय विदेशी मुद्रा कोष में 1990-91 के बाद वृद्धि हुई।

निम्नलिखित में से सही विकल्प का चुनाव करें:

- 1. A और E केवल
- 2. B और D केवल
- 3. A, B और E केवल
- 4. B, D और E केवल

Options :

- 485584152605. 1
- 485584152606. 2
- 485584152607. 3
- 485584152608. 4

Question Number : 438 Question Id : 48558438153 Question Type : MCQ Option Shuffling : No Is Question Mandatory : No Calculator : None Response Time : N.A Think Time : N.A Minimum Instruction Time : 0

Correct Marks : 5 Wrong Marks : 1

Question Key Details :

Key	Value
Comprehension	MCQ

Find out correct information

- A. Both consumption goods and capital goods are final goods.
- B. Intermediate goods, mostly used as raw material.
- C. Capital goods are crucial backbone of production process.
- D. Final goods pass through more stages of production.

Choose the correct answer from the options given below:

- 1. B and C only
- 2. A, C and D only
- 3. A, B and C only
- 4. A, C and D only

Options :

- 485584152609. 1
- 485584152610. 2
- 485584152611. 3
- 485584152612. 4

Question Number : 438 Question Id : 48558438153 Question Type : MCQ Option Shuffling : No Is Question Mandatory : No Calculator : None Response Time : N.A Think Time : N.A Minimum Instruction Time : 0

Correct Marks : 5 Wrong Marks : 1

Question Key Details :

Key	Value
Comprehension	MCQ

सही जानकारी शत करें।

- A. उपभोग वस्तुएं और पूंजीगत वस्तुएं दोनों ही अन्तिम वस्तुएं हैं।
- B. कच्चे माल के रूप में अधिकतर मध्यवर्ती माल का उपयोग किया जाता है।
- C. पूंजीगत सामान उत्पादन प्रक्रिया की महत्वपूर्ण रीढ़ है।
- D. अंतिम माल उत्पादन प्रक्रिया के अधिक चरणों से गुजरता है।

नीचे दिए गये विकल्पों में से सही उत्तर का चुनाव करें:

- 1. B और C केवल
- 2. A, C और D केवल
- 3. A, B और C केवल
- 4. A, C और D केवल

Options :

- 485584152609. 1
- 485584152610. 2
- 485584152611. 3
- 485584152612. 4

Question Number : 439 Question Id : 48558438154 Question Type : MCQ Option Shuffling : No Is Question Mandatory : No Calculator : None Response Time : N.A Think Time : N.A Minimum Instruction Time : 0

Correct Marks : 5 Wrong Marks : 1

Question Key Details :

Key	Value
Comprehension	MCQ

Price of a commodity increases. The demand is inelastic if:

- 1. Total expenditure (T.E.) on the commodity decreases.
- 2. T.E. on the commodity increases.
- 3. T.E. remains same.
- 4. T.E. becomes zero.

Options :

- 485584152613. 1
- 485584152614. 2
- 485584152615. 3
- 485584152616. 4

Question Number : 439 Question Id : 48558438154 Question Type : MCQ Option Shuffling : No Is Question Mandatory : No Calculator : None Response Time : N.A Think Time : N.A Minimum Instruction Time : 0

Correct Marks : 5 Wrong Marks : 1

Question Key Details :

Key	Value
Comprehension	MCQ

एक वस्तु की कीमत में वृद्धि हो जाती है। माँग बेलोचदार होगी यदि

1. वस्तु पर कुल व्यय में कमी आती है।
2. वस्तु पर कुल व्यय में वृद्धि हो जाती है।
3. कुल व्यय समान रहता है।
4. कुल व्यय शून्य हो जाता है।

Options :

485584152613. 1
485584152614. 2
485584152615. 3
485584152616. 4

Question Number : 440 Question Id : 48558438155 Question Type : MCQ Option Shuffling : No Is Question Mandatory : No Calculator : None Response Time : N.A Think Time : N.A Minimum Instruction Time : 0

Correct Marks : 5 Wrong Marks : 1

Question Key Details :

Key	Value
Comprehension	MCQ

Absorptive capacity implies that the

1. Resource extraction is not above the rate of regeneration of the resource.
2. The wastes generated are within the assimilating capacity of the environment.
3. The burning of fossil fuels and deforestation.
4. The ability of the environment to absorb degradation.

Options :

485584152617. 1
485584152618. 2
485584152619. 3
485584152620. 4

Question Number : 440 Question Id : 48558438155 Question Type : MCQ Option Shuffling : No Is Question Mandatory : No Calculator : None Response Time : N.A Think Time : N.A Minimum Instruction Time : 0

Correct Marks : 5 Wrong Marks : 1

Question Key Details :

Key	Value
Comprehension	MCQ

अवशोषण क्षमता का तात्पर्य है कि

1. संसाधन निष्कर्षण संसाधनों के पुनर्जनन की दर से ऊपर नहीं है।
2. उत्पन्न अपशिष्ट पर्यावरण की आत्मसात क्षमता के भीतर है।
3. जीवाश्म ईंधन को जलाना और वनों की कटाई।
4. क्षरण को अवशोषित करने के लिए पर्यावरण की क्षमता

Options :

485584152617. 1
485584152618. 2
485584152619. 3
485584152620. 4

Question Number : 441 Question Id : 48558438156 Question Type : MCQ Option Shuffling : No Is Question Mandatory : No Calculator : None
Response Time : N.A Think Time : N.A Minimum Instruction Time : 0

Correct Marks : 5 Wrong Marks : 1

Question Key Details :

Key	Value
Comprehension	MCQ

Currency Depreciation leads to:

1. Increase in Export
2. Decrease in Import
3. Increase in Import
4. Decrease in Export

Options :

- 485584152621. 1
- 485584152622. 2
- 485584152623. 3
- 485584152624. 4

Question Number : 441 Question Id : 48558438156 Question Type : MCQ Option Shuffling : No Is Question Mandatory : No Calculator : None
Response Time : N.A Think Time : N.A Minimum Instruction Time : 0

Correct Marks : 5 Wrong Marks : 1

Question Key Details :

Key	Value
Comprehension	MCQ

मुद्रा मूल्य हास के कारण क्या होता है?

1. निर्यात में बढ़ोतरी
2. आयात में कमी
3. आयात में वृद्धि
4. निर्यात में कमी

Options :

- 485584152621. 1
- 485584152622. 2
- 485584152623. 3
- 485584152624. 4

Question Number : 442 Question Id : 48558438157 Question Type : MCQ Option Shuffling : No Is Question Mandatory : No Calculator : None
Response Time : N.A Think Time : N.A Minimum Instruction Time : 0

Correct Marks : 5 Wrong Marks : 1

Question Key Details :

Key	Value
Comprehension	MCQ

Match List I with List II

LIST I		LIST II	
A.	TISCO	I.	1921
B.	Suez Canal	II.	1881
C.	Second stage of Transition	III.	1907
D.	First systematic census	IV.	1869

Choose the correct answer from the options given below:

1. A-III, B-IV, C-II, D-I
2. A-IV, B-III, C-II, D-I
3. A-III, B-IV, C-I, D-II
4. A-III, B-I, C-IV, D-II

Options :

485584152625. 1
485584152626. 2
485584152627. 3
485584152628. 4

Question Number : 442 Question Id : 48558438157 Question Type : MCQ Option Shuffling : No Is Question Mandatory : No Calculator : None
Response Time : N.A Think Time : N.A Minimum Instruction Time : 0

Correct Marks : 5 Wrong Marks : 1

Question Key Details :

Key	Value
Comprehension	MCQ

सूची I का सूची II से मिलान करें

सूची I		सूची II	
A.	टिस्को	I	1921
B.	सुएज कनाल	II.	1881
C.	बदलाव का द्वितीय स्तर	III.	1907
D.	पहली व्यवस्थित जन गणना	IV	1869

नीचे दिए गये विकल्पों में से सही उत्तर चुनिए :

1. A-III, B-IV, C-II, D-I
2. A-IV, B-III, C-II, D-I
3. A-III, B-IV, C-I, D-II
4. A-III, B-I, C-IV, D-II

Options :

485584152625. 1
485584152626. 2
485584152627. 3
485584152628. 4

Question Number : 443 Question Id : 48558438158 Question Type : MCQ Option Shuffling : No Is Question Mandatory : No Calculator : None
Response Time : N.A Think Time : N.A Minimum Instruction Time : 0

Correct Marks : 5 Wrong Marks : 1

Question Key Details :

Key	Value
Comprehension	MCQ

When TU is maximum, what happens to MU

1. MU is also maximum
2. MU is negative
3. MU is zero
4. MU is positive

Options :

485584152629. 1
485584152630. 2
485584152631. 3
485584152632. 4

Question Number : 443 Question Id : 48558438158 Question Type : MCQ Option Shuffling : No Is Question Mandatory : No Calculator : None Response Time : N.A Think Time : N.A Minimum Instruction Time : 0

Correct Marks : 5 Wrong Marks : 1

Question Key Details :

Key	Value
Comprehension	MCQ

जब कुल उपयोगिता अधिकतम हो, तो सीमांत उपयोगिता क्या होती है।

1. सीमांत उपयोगिता भी अधिकतम होती है।
2. सीमांत उपयोगिता ऋणात्मक होती है।
3. सीमांत उपयोगिता शून्य होती है।
4. सीमांत उपयोगिता धनात्मक होती है।

Options :

485584152629. 1
485584152630. 2
485584152631. 3
485584152632. 4

Question Number : 444 Question Id : 48558438159 Question Type : MCQ Option Shuffling : No Is Question Mandatory : No Calculator : None Response Time : N.A Think Time : N.A Minimum Instruction Time : 0

Correct Marks : 5 Wrong Marks : 1

Question Key Details :

Key	Value
Comprehension	MCQ

Current A/C of Balance of payment does not include:

1. Portfolio Investment
2. Visible items
3. Invisible Items
4. Transfer payments

Options :

485584152633. 1
485584152634. 2
485584152635. 3
485584152636. 4

Question Number : 444 Question Id : 48558438159 Question Type : MCQ Option Shuffling : No Is Question Mandatory : No Calculator : None
Response Time : N.A Think Time : N.A Minimum Instruction Time : 0

Correct Marks : 5 Wrong Marks : 1

Question Key Details :

Key	Value
Comprehension	MCQ

भुगतान संतुलन के चालू खाते में यह शामिल नहीं है।

1. पोर्टफोलियो निवेश
2. दृश्य वस्तुएं
3. अदृश्य वस्तुएं
4. स्थानांतरित भुगतान

Options :

- 485584152633. 1
- 485584152634. 2
- 485584152635. 3
- 485584152636. 4

Question Number : 445 Question Id : 48558438160 Question Type : MCQ Option Shuffling : No Is Question Mandatory : No Calculator : None
Response Time : N.A Think Time : N.A Minimum Instruction Time : 0

Correct Marks : 5 Wrong Marks : 1

Question Key Details :

Key	Value
Comprehension	MCQ

Identify the plan that pointed out "the benefits of economic development must occur more and more to the relatively less privileged classes of society"

1. Second five year plan
2. First five year plan
3. Fourth five year plan
4. Tenth five year plan

Options :

- 485584152637. 1
- 485584152638. 2
- 485584152639. 3
- 485584152640. 4

Question Number : 445 Question Id : 48558438160 Question Type : MCQ Option Shuffling : No Is Question Mandatory : No Calculator : None
Response Time : N.A Think Time : N.A Minimum Instruction Time : 0

Correct Marks : 5 Wrong Marks : 1

Question Key Details :

Key	Value
Comprehension	MCQ

उस योजना की पहचान करें जो इंगित करती है कि "आर्थिक विकास के लाभ समाज के अपेक्षाकृत कम विशेषाधिकार प्राप्त वर्गों को अधिक से अधिक प्राप्त होने चाहिए।"

1. दूसरी पंचवर्षीय योजना
2. पहली पंचवर्षीय योजना
3. चौथी पंचवर्षीय योजना
4. दसवीं पंचवर्षीय योजना

Options :

485584152637. 1
485584152638. 2
485584152639. 3
485584152640. 4

Question Number : 446 Question Id : 48558438161 Question Type : MCQ Option Shuffling : No Is Question Mandatory : No Calculator : None Response Time : N.A Think Time : N.A Minimum Instruction Time : 0

Correct Marks : 5 Wrong Marks : 1

Question Key Details :

Key	Value
Comprehension	MCQ

Match List I with List II

LIST I	LIST II
A. Bank Rate	I. Rate at which RBI lends Commercial Banks for short period of time
B. Open market operation	II. Determined by Commercial Banks at which loan is given
C. Repo Rate	III. Rate at which RBI lends to Commercial Banks
D. Interest Rate	IV. Buying & selling of bonds

Choose the correct answer from the options given below:

1. A-III, B-IV, C-II, D-I
2. A-III, B-IV, C-I, D-II
3. A-IV, B-III, C-I, D-II
4. A-IV, B-III, C-II, D-I

Options :

485584152641. 1
485584152642. 2
485584152643. 3
485584152644. 4

Question Number : 446 Question Id : 48558438161 Question Type : MCQ Option Shuffling : No Is Question Mandatory : No Calculator : None Response Time : N.A Think Time : N.A Minimum Instruction Time : 0

Correct Marks : 5 Wrong Marks : 1

Question Key Details :

Key	Value
Comprehension	MCQ

सूची I का सूची II से सुमेलित कीजिए

सूची I		सूची II	
A.	बैंक दर	I.	वह दरजिस पर आर. बी. आई.कम समय के लिए वाणिज्यिक बैंकों को उधार देता है।
B.	खुला बाजार प्रक्रिया	II.	वाणिज्यिक बैंक द्वारा निर्धारित किया जाता है जिस पर ऋण दिया जाता है।
C.	रेपो दर	III.	जिस दरपर भारतीय रिजर्व बैंक वाणिज्यिक बैंकों को उधार देता है रेपो दर
D.	ब्याज दर	IV.	बीड की खरीद और बिक्री।

नीचे दिए गए विकल्पों में से सही उत्तर का चुनाव कीजिए :

1. A-III, B-IV, C-II, D-I
2. A-III, B-IV, C-I, D-II
3. A-IV, B-III, C-I, D-II
4. A-IV, B-III, C-II, D-I

Options :

485584152641. 1
485584152642. 2
485584152643. 3
485584152644. 4

Question Number : 447 Question Id : 48558438162 Question Type : MCQ Option Shuffling : No Is Question Mandatory : No Calculator : None Response Time : N.A Think Time : N.A Minimum Instruction Time : 0

Correct Marks : 5 Wrong Marks : 1

Question Key Details :

Key	Value
Comprehension	MCQ

Which of the following is revaluation of currency in fixed exchange rate system

1. The price of domestic currency is pegged with two or more foreign currencies
2. When the government decreased the exchange rate
3. When the government increases the exchange rate
4. The price of domestic currency in terms of foreign currency increases.

Options :

485584152645. 1
485584152646. 2
485584152647. 3
485584152648. 4

Question Number : 447 Question Id : 48558438162 Question Type : MCQ Option Shuffling : No Is Question Mandatory : No Calculator : None Response Time : N.A Think Time : N.A Minimum Instruction Time : 0

Correct Marks : 5 Wrong Marks : 1

Question Key Details :

Key	Value
Comprehension	MCQ

निम्नलिखित में से कौन स्थिर विनियम दर प्रणाली में मुद्रा का पुनर्मुल्यांकन है।

1. घरेलू मुद्रा दो या अधिक विदेशी मुद्राओं के साथ समायोजित होती है।
2. जब सरकार विनियम दर में कमी करती है।
3. जब सरकार विनियम दर में वृद्धि करती है।
4. विदेशी मुद्रा के मामले में घरेलू मुद्रा की कीमत बढ़ जाती है।

Options :

485584152645. 1
485584152646. 2
485584152647. 3
485584152648. 4

Question Number : 448 Question Id : 48558438163 Question Type : MCQ Option Shuffling : No Is Question Mandatory : No Calculator : None Response Time : N.A Think Time : N.A Minimum Instruction Time : 0

Correct Marks : 5 Wrong Marks : 1

Question Key Details :

Key	Value
Comprehension	MCQ

Distribution of GDP's for Firms A and B are given:

	Firm A (₹)	Firm B (₹)
Sales	50	200
Intermediate Consumption	10	50

Find the value added of firm A.

1. ₹50
2. ₹10
3. ₹40
4. ₹60

Options :

485584152649. 1
485584152650. 2
485584152651. 3
485584152652. 4

Question Number : 448 Question Id : 48558438163 Question Type : MCQ Option Shuffling : No Is Question Mandatory : No Calculator : None Response Time : N.A Think Time : N.A Minimum Instruction Time : 0

Correct Marks : 5 Wrong Marks : 1

Question Key Details :

Key	Value
Comprehension	MCQ

फर्म A और B के लिए सकल घरेलू उत्पाद का वितरण दिया जाया है।

	फर्म A (₹)	फर्म B (₹)
विक्री	30	200
माध्यम उपभोग	10	50

फर्म A का वर्धित मूल्य ज्ञात करें।

1. ₹50
2. ₹10
3. ₹40
4. ₹60

Options :

485584152649. 1
485584152650. 2
485584152651. 3
485584152652. 4

Question Number : 449 Question Id : 48558438164 Question Type : MCQ Option Shuffling : No Is Question Mandatory : No Calculator : None Response Time : N.A Think Time : N.A Minimum Instruction Time : 0

Correct Marks : 5 Wrong Marks : 1

Question Key Details :

Key	Value
Comprehension	MCQ

Opportunity cost refers to:

1. Loss of opportunity
2. Gain of opportunity
3. Next best alternative foregone
4. Next worst alternative foregone

Options :

485584152653. 1
485584152654. 2
485584152655. 3
485584152656. 4

Question Number : 449 Question Id : 48558438164 Question Type : MCQ Option Shuffling : No Is Question Mandatory : No Calculator : None Response Time : N.A Think Time : N.A Minimum Instruction Time : 0

Correct Marks : 5 Wrong Marks : 1

Question Key Details :

Key	Value
Comprehension	MCQ

अवसर लागत संदर्भित करता है।

1. अवसर की हानि
2. अवसर की लाभ
3. अगला सबसे अच्छा विकल्प चला गया
4. अगला सबसे खराब विकल्प चला गया

Options :

485584152653. 1
485584152654. 2
485584152655. 3
485584152656. 4

Question Number : 450 Question Id : 48558438165 Question Type : MCQ Option Shuffling : No Is Question Mandatory : No Calculator : None Response Time : N.A Think Time : N.A Minimum Instruction Time : 0

Correct Marks : 5 Wrong Marks : 1

Question Key Details :

Key	Value
Comprehension	MCQ

Identify the social Infrastructure:

- A. Number of movie halls
- B. Housing
- C. Number of school & hospitals
- D. Number of industries
- E. Number of malls

Choose the correct answer from the options given below:

1. A, B, & C Only
2. C, D, & E Only
3. B & C Only
4. A, B, D & E Only

Options :

485584152657. 1
485584152658. 2
485584152659. 3
485584152660. 4

Question Number : 450 Question Id : 48558438165 Question Type : MCQ Option Shuffling : No Is Question Mandatory : No Calculator : None Response Time : N.A Think Time : N.A Minimum Instruction Time : 0

Correct Marks : 5 Wrong Marks : 1

Question Key Details :

Key	Value
Comprehension	MCQ

निम्नलिखित में से सामाजिक आधारभूत संरचना कौन से हैं।

- A. सिनेमा हाल की संख्या
- B. मकान की संख्या
- C. विद्यालय और अस्पताल की संख्या
- D. उद्योगों की संख्या
- E. मॉल की संख्या

निम्नलिखित में से सही विकल्प का चुनाव करें।

- 1. A, B, और C केवल
- 2. C, D, और E केवल
- 3. B और C केवल
- 4. A, B, D और E केवल

Options :

- 485584152657. 1
- 485584152658. 2
- 485584152659. 3
- 485584152660. 4

Question Number : 451 Question Id : 48558438166 Question Type : MCQ Option Shuffling : No Is Question Mandatory : No Calculator : None Response Time : N.A Think Time : N.A Minimum Instruction Time : 0

Correct Marks : 5 Wrong Marks : 1

Question Key Details :

Key	Value
Comprehension	MCQ

India got its Central bank in:

- 1. 1934
- 2. 1935
- 3. 1936
- 4. 1950

Options :

- 485584152661. 1
- 485584152662. 2
- 485584152663. 3
- 485584152664. 4

Question Number : 451 Question Id : 48558438166 Question Type : MCQ Option Shuffling : No Is Question Mandatory : No Calculator : None Response Time : N.A Think Time : N.A Minimum Instruction Time : 0

Correct Marks : 5 Wrong Marks : 1

Question Key Details :

Key	Value
Comprehension	MCQ

भारत को केन्द्रीय बैंक कब प्राप्त हुआ?

1. 1934
2. 1935
3. 1936
4. 1950

Options :

- 485584152661. 1
- 485584152662. 2
- 485584152663. 3
- 485584152664. 4

Question Number : 452 Question Id : 48558438167 Question Type : MCQ Option Shuffling : No Is Question Mandatory : No Calculator : None Response Time : N.A Think Time : N.A Minimum Instruction Time : 0

Correct Marks : 5 Wrong Marks : 1

Question Key Details :

Key	Value
Comprehension	MCQ

Due to increase in investment by 2000 crore, National Income increases by 8000 crores. Find the value of MPC.

1. 0.40
2. 0.50
3. 0.25
4. 0.75

Options :

- 485584152665. 1
- 485584152666. 2
- 485584152667. 3
- 485584152668. 4

Question Number : 452 Question Id : 48558438167 Question Type : MCQ Option Shuffling : No Is Question Mandatory : No Calculator : None Response Time : N.A Think Time : N.A Minimum Instruction Time : 0

Correct Marks : 5 Wrong Marks : 1

Question Key Details :

Key	Value
Comprehension	MCQ

निवेश में 2000 करोड़ की वृद्धि से राष्ट्रीय आय में 8000 करोड़ की वृद्धि होती है। MPC का मान ज्ञात करें।

1. 0.40
2. 0.50
3. 0.25
4. 0.75

Options :

- 485584152665. 1
- 485584152666. 2
- 485584152667. 3
- 485584152668. 4

Question Number : 453 Question Id : 48558438168 Question Type : MCQ Option Shuffling : No Is Question Mandatory : No Calculator : None
Response Time : N.A Think Time : N.A Minimum Instruction Time : 0

Correct Marks : 5 Wrong Marks : 1

Question Key Details :

Key	Value
Comprehension	MCQ

Fiscal Policy includes:

- A. Govt Expenditure
- B. Taxation
- C. Deficit Financing
- D. Open market operation

Choose the correct answer from the options given below:

- 1. A & B Only
- 2. B, C & D Only
- 3. A, B, & C Only
- 4. A, B, C & D Only

Options :

- 485584152669. 1
- 485584152670. 2
- 485584152671. 3
- 485584152672. 4

Question Number : 453 Question Id : 48558438168 Question Type : MCQ Option Shuffling : No Is Question Mandatory : No Calculator : None
Response Time : N.A Think Time : N.A Minimum Instruction Time : 0

Correct Marks : 5 Wrong Marks : 1

Question Key Details :

Key	Value
Comprehension	MCQ

राजकोषीय नीति में समाहित है

- A. सरकार के द्वारा किया गया व्यय
- B. कर
- C. घाटे का वित्तपोषण
- D. खुला बाजार संचालन

Choose the correct answer from the options given below:

- 1. A & B Only
- 2. B, C & D Only
- 3. A, B, & C Only
- 4. A, B, C & D Only

Options :

- 485584152669. 1
- 485584152670. 2
- 485584152671. 3
- 485584152672. 4

Question Number : 454 Question Id : 48558438169 Question Type : MCQ Option Shuffling : No Is Question Mandatory : No Calculator : None
Response Time : N.A Think Time : N.A Minimum Instruction Time : 0

Correct Marks : 5 Wrong Marks : 1

Question Key Details :

Key	Value
Comprehension	MCQ

Which of the following is an example of positive economic analysis:

1. The government must provide for the basic needs of the poor.
2. A vast majority of the poor are not able to meet their basic nutritional needs.
3. Poverty should be alliviated with the help of wage generation programmes.
4. Housing schemes must be accompanied with poverty alleviation programmes.

Options :

485584152673. 1
485584152674. 2
485584152675. 3
485584152676. 4

Question Number : 454 Question Id : 48558438169 Question Type : MCQ Option Shuffling : No Is Question Mandatory : No Calculator : None Response Time : N.A Think Time : N.A Minimum Instruction Time : 0

Correct Marks : 5 Wrong Marks : 1

Question Key Details :

Key	Value
Comprehension	MCQ

निम्नलिखित में से कौन सा सकारात्मक आर्थिक विश्लेषण का एक उदाहरण है।

1. सरकार को गरीबों की बुनियादी जरूरतों को पूरा करना चाहिए।
2. गरीबों का एक बड़ा हिस्सा अपनी बुनियादी पोषण संबंधी जरूरतों को पूरा करने में सक्षम नहीं है।
3. मजदूरी सृजन कार्यक्रमों की मदद से गरीबी को कम किया जाना चाहिए।
4. आवास योजनाओं के साथ गरीबी उन्मूलन कार्यक्रम होना चाहिए।

Options :

485584152673. 1
485584152674. 2
485584152675. 3
485584152676. 4

Question Number : 455 Question Id : 48558438170 Question Type : MCQ Option Shuffling : No Is Question Mandatory : No Calculator : None Response Time : N.A Think Time : N.A Minimum Instruction Time : 0

Correct Marks : 5 Wrong Marks : 1

Question Key Details :

Key	Value
Comprehension	MCQ

Identify the Demand for foreign exchange-

- A. Demand for domestic goods by foreigners
- B. Purchase of financial assets of a foreign country.
- C. Studying abroad
- D. Transfers made by foreigners to resident
- E. Import of goods

Choose the correct answer from the options given below:

- 1. A, B and E only
- 2. B, C and E only
- 3. A, C and E only
- 4. A, C, D and E only

Options :

- 485584152677. 1
- 485584152678. 2
- 485584152679. 3
- 485584152680. 4

Question Number : 455 Question Id : 48558438170 Question Type : MCQ Option Shuffling : No Is Question Mandatory : No Calculator : None Response Time : N.A Think Time : N.A Minimum Instruction Time : 0

Correct Marks : 5 Wrong Marks : 1

Question Key Details :

Key	Value
Comprehension	MCQ

विदेशी मुद्रा की मांग को पहचानें

- A. विदेशियों द्वारा घरेलू वस्तुओं की मांग
- B. विदेशी वित्तीय संपत्ति की खरीद
- C. विदेश में अध्ययन
- D. विदेशियों द्वारा निवासी को किये गए स्थानंतरण
- E. माल का आयात

नीचे दिए गये विकल्पों में से सही उत्तर का चुनाव करें।

- 1. A, B और E केवल
- 2. B, C और E केवल
- 3. A, C और E केवल
- 4. A, C, D और E केवल

Options :

- 485584152677. 1
- 485584152678. 2
- 485584152679. 3
- 485584152680. 4

Question Number : 456 Question Id : 48558438171 Question Type : MCQ Option Shuffling : No Is Question Mandatory : No Calculator : None Response Time : N.A Think Time : N.A Minimum Instruction Time : 0

Correct Marks : 5 Wrong Marks : 1

Question Key Details :

Key	Value
Comprehension	MCQ

Arrange the following in chronological order according to its formation:

- A. The Delhi State Electricity Board (DSEB)
- B. Delhi Electric Supply Undertaking (DESU)
- C. Delhi Vidyut Board (DVB)
- D. Reliance Energy Limited (BSES)

Choose the correct answer from the options given below:

- 1. A, B, C, D
- 2. A, B, D, C
- 3. B, A, C, D
- 4. C, B, A, D

Options :

- 485584152681. 1
- 485584152682. 2
- 485584152683. 3
- 485584152684. 4

Question Number : 456 Question Id : 48558438171 Question Type : MCQ Option Shuffling : No Is Question Mandatory : No Calculator : None Response Time : N.A Think Time : N.A Minimum Instruction Time : 0

Correct Marks : 5 Wrong Marks : 1

Question Key Details :

Key	Value
Comprehension	MCQ

निम्नलिखित को उनकी स्थापना के अनुसार व्यवस्थित करें ।

- A. दिल्ली राज्य विद्युत बोर्ड (DSEB)
- B. दिल्ली विद्युत आपूर्ति उपक्रम (DESU)
- C. दिल्ली विद्युत बोर्ड (DVB)
- D. रिलायंस ऊर्जा लिमिटेड (BSES)

नीचे दिए गये विकल्पों में से सही उत्तर का चुनाव करें ।

- 1. A, B, C, D
- 2. A, B, D, C
- 3. B, A, C, D
- 4. C, B, A, D

Options :

- 485584152681. 1
- 485584152682. 2
- 485584152683. 3
- 485584152684. 4

Question Number : 457 Question Id : 48558438172 Question Type : MCQ Option Shuffling : No Is Question Mandatory : No Calculator : None Response Time : N.A Think Time : N.A Minimum Instruction Time : 0

Correct Marks : 5 Wrong Marks : 1

Question Key Details :

Key	Value
Comprehension	MCQ

Which of the following will not be included in the National income of India.

1. Profits earned by an Indian resident from his company abroad.
2. Salaries earned by Indian residents working in Japan.
3. Profits earned by a foreign company in India.
4. Dividends received by Indian shareholders of a company.

Options :

- 485584152685. 1
- 485584152686. 2
- 485584152687. 3
- 485584152688. 4

Question Number : 457 Question Id : 48558438172 Question Type : MCQ Option Shuffling : No Is Question Mandatory : No Calculator : None Response Time : N.A Think Time : N.A Minimum Instruction Time : 0

Correct Marks : 5 Wrong Marks : 1

Question Key Details :

Key	Value
Comprehension	MCQ

निम्नलिखित में से कौन सा राष्ट्रीय आय में समाहित नहीं होगा ?

1. भारतीय निवासी का उसके विदेश स्थित कम्पनी से लाभ कमाना
2. जापान में कार्यरत भारतीय निवासी का वेतन कमाना
3. विदेशी कम्पनी का भारत में लाभ कमाना
4. भारतीय शेयरधारक का एक कम्पनी से लाभांश प्राप्त करना

Options :

- 485584152685. 1
- 485584152686. 2
- 485584152687. 3
- 485584152688. 4

Question Number : 458 Question Id : 48558438173 Question Type : MCQ Option Shuffling : No Is Question Mandatory : No Calculator : None Response Time : N.A Think Time : N.A Minimum Instruction Time : 0

Correct Marks : 5 Wrong Marks : 1

Question Key Details :

Key	Value
Comprehension	MCQ

Arrange the following according to their year of introduction in ascending order:

- A. Mid Day Meal Scheme
- B. Sarva Shiksha Abhiyan
- C. Skill India
- D. Free and Compulsory Education Act

Choose the correct answer from the options given below:

- 1. A, C, B, D
- 2. A, B, D, C
- 3. B, D, A, C
- 4. B, C, D, A

Options :

- 485584152689. 1
- 485584152690. 2
- 485584152691. 3
- 485584152692. 4

Question Number : 458 Question Id : 48558438173 Question Type : MCQ Option Shuffling : No Is Question Mandatory : No Calculator : None Response Time : N.A Think Time : N.A Minimum Instruction Time : 0

Correct Marks : 5 Wrong Marks : 1

Question Key Details :

Key	Value
Comprehension	MCQ

निम्नलिखित को उनके परिचय के वर्ष के अनुसार आरोही क्रम में व्यवस्थित करें।

- A. मध्याह्न भोजन योजना
- B. सर्वशिक्षा अभियान
- C. स्किल इंडिया
- D. मुफ्त और अनिवार्य शिक्षा अधिनियम

नीचे दिए गये विकल्पों में से सही उत्तर का चुनाव करें।

- 1. A, C, B, D
- 2. A, B, D, C
- 3. B, D, A, C
- 4. B, C, D, A

Options :

- 485584152689. 1
- 485584152690. 2
- 485584152691. 3
- 485584152692. 4

Question Number : 459 Question Id : 48558438174 Question Type : MCQ Option Shuffling : No Is Question Mandatory : No Calculator : None Response Time : N.A Think Time : N.A Minimum Instruction Time : 0

Correct Marks : 5 Wrong Marks : 1

Question Key Details :

Key	Value
Comprehension	MCQ

Arrange the following in sequence for the impact on economy when central bank raises Repo rate:

- A. People will take less loan.
- B. Money supply will decrease in economy.
- C. Borrowing become costlier.
- D. Commercial banks will increase interest rate.
- E. Aggregate demand will decrease.

Choose the correct answer from the options given below:

- 1. D, B, C, A, E
- 2. D, C, B, A, E
- 3. D, C, A, B, E
- 4. E, A, B, C, D

Options :

- 485584152693. 1
- 485584152694. 2
- 485584152695. 3
- 485584152696. 4

Question Number : 459 Question Id : 48558438174 Question Type : MCQ Option Shuffling : No Is Question Mandatory : No Calculator : None Response Time : N.A Think Time : N.A Minimum Instruction Time : 0

Correct Marks : 5 Wrong Marks : 1

Question Key Details :

Key	Value
Comprehension	MCQ

जब केन्द्रीय बैंक रेपो दर बढ़ाता है तो अर्थव्यवस्था पर निम्नलिखित प्रभाव को क्रम में व्यवस्थित करें।

- A. लोग कम कर्ज लेंगे
- B. अर्थव्यवस्था में धन की आपूर्ति घटेगी
- C. कर्ज लेना महंगा हो जाएगा
- D. वाणिज्यिक बैंक ब्याज दर बढ़ाएंगे
- E. कुल मांग घटेगी

नीचे दिए गये विकल्पों में से सही उत्तर का चुनाव करें।

- 1. D, B, C, A, E
- 2. D, C, B, A, E
- 3. D, C, A, B, E
- 4. E, A, B, C, D

Options :

- 485584152693. 1
- 485584152694. 2
- 485584152695. 3
- 485584152696. 4

Question Number : 460 Question Id : 48558438175 Question Type : MCQ Option Shuffling : No Is Question Mandatory : No Calculator : None Response Time : N.A Think Time : N.A Minimum Instruction Time : 0

Correct Marks : 5 Wrong Marks : 1

Question Key Details :

Key	Value
Comprehension	MCQ

A surplus current account means

- A. Receipts > Payments
- B. Receipts = Payments
- C. Receipts < Payments
- D. Receipts > Price of commodity
- E. Receipts = Total Sale

Choose the correct answer from the options given below:

- 1. A and D Only
- 2. B and E Only
- 3. A Only
- 4. C Only

Options :

- 485584152697. 1
- 485584152698. 2
- 485584152699. 3
- 485584152700. 4

Question Number : 460 Question Id : 48558438175 Question Type : MCQ Option Shuffling : No Is Question Mandatory : No Calculator : None Response Time : N.A Think Time : N.A Minimum Instruction Time : 0

Correct Marks : 5 Wrong Marks : 1

Question Key Details :

Key	Value
Comprehension	MCQ

एक अधिशेष खाते का अर्थ है

- A. प्राप्तियां > भुगतान
- B. प्राप्तियां = भुगतान
- C. प्राप्तियां < भुगतान
- D. प्राप्तियां > वस्तुओं की कीमत
- E. प्राप्तियां = कुल बिक्री

नीचे दिए गये विकल्पों में से सही उत्तर का चुनाव करें।

- 1. A और D केवल
- 2. B और E केवल
- 3. A केवल
- 4. C केवल

Options :

- 485584152697. 1
- 485584152698. 2
- 485584152699. 3
- 485584152700. 4

Question Number : 461 Question Id : 48558438176 Question Type : MCQ Option Shuffling : No Is Question Mandatory : No Calculator : None Response Time : N.A Think Time : N.A Minimum Instruction Time : 0

Correct Marks : 5 Wrong Marks : 1

Question Key Details :

Key	Value
Comprehension	MCQ

When the aggregate revenue received by the firms is paid out to the factors of production, it takes the form of

1. Aggregate Demand (AD)
2. Aggregate Supply (AS)
3. Aggregate Income
4. Profit

Options :

485584152701. 1
485584152702. 2
485584152703. 3
485584152704. 4

Question Number : 461 Question Id : 48558438176 Question Type : MCQ Option Shuffling : No Is Question Mandatory : No Calculator : None Response Time : N.A Think Time : N.A Minimum Instruction Time : 0

Correct Marks : 5 Wrong Marks : 1

Question Key Details :

Key	Value
Comprehension	MCQ

जब फर्मों द्वारा प्राप्त कुल राजस्व का भुगतान उत्पादन के कारकों को किया जाता है, तो वह इस रूप में होता है।

1. कुल मांग
2. कुल आपूर्ति
3. कुल आय
4. लाभ

Options :

485584152701. 1
485584152702. 2
485584152703. 3
485584152704. 4

Question Number : 462 Question Id : 48558438177 Question Type : MCQ Option Shuffling : No Is Question Mandatory : No Calculator : None Response Time : N.A Think Time : N.A Minimum Instruction Time : 0

Correct Marks : 5 Wrong Marks : 1

Question Key Details :

Key	Value
Comprehension	MCQ

Which of the following factor is not responsible for the downward slope of the demand curve

1. Bandwagon effect
2. Law of Diminishing Marginal utility
3. Substitution effect
4. Income effect

Options :

485584152705. 1
485584152706. 2
485584152707. 3
485584152708. 4

Question Number : 462 Question Id : 48558438177 Question Type : MCQ Option Shuffling : No Is Question Mandatory : No Calculator : None
Response Time : N.A Think Time : N.A Minimum Instruction Time : 0

Correct Marks : 5 Wrong Marks : 1

Question Key Details :

Key	Value
Comprehension	MCQ

निम्नलिखितमें से कौन सा कारक मांग वक्र के नीचे की ओर ढलान के लिए जिम्मेदार नहीं है।

1. बेहवैगन प्रभाव
2. हासमान सीमांत उपयोगिता का नियम
3. प्रतिस्थापन प्रभाव
4. आय प्रभाव

Options :

485584152705. 1

485584152706. 2

485584152707. 3

485584152708. 4

Question Number : 463 Question Id : 48558438178 Question Type : MCQ Option Shuffling : No Is Question Mandatory : No Calculator : None
Response Time : N.A Think Time : N.A Minimum Instruction Time : 0

Correct Marks : 5 Wrong Marks : 1

Question Key Details :

Key	Value
Comprehension	MCQ

The value of all goods and services can be expressed in monetary units.

This statement refers to which function of money?

1. Unit of Account
2. Medium of Exchange
3. Store of Value
4. Standard of deferred payments

Options :

485584152709. 1

485584152710. 2

485584152711. 3

485584152712. 4

Question Number : 463 Question Id : 48558438178 Question Type : MCQ Option Shuffling : No Is Question Mandatory : No Calculator : None
Response Time : N.A Think Time : N.A Minimum Instruction Time : 0

Correct Marks : 5 Wrong Marks : 1

Question Key Details :

Key	Value
Comprehension	MCQ

सभी वस्तुओं और सेवाओं का मूल्य मौद्रिक इकाइयों में व्यक्त किया जा सकता है।

यह कथन मुद्रा के किस कार्य को दर्शाता है।

1. खातों की इकाई।
2. विनियम का माध्यम
3. मूल्य संचय
4. स्थगित भुगतान का मानक

Options :

485584152709. 1
485584152710. 2
485584152711. 3
485584152712. 4

Question Number : 464 Question Id : 48558438179 Question Type : MCQ Option Shuffling : No Is Question Mandatory : No Calculator : None Response Time : N.A Think Time : N.A Minimum Instruction Time : 0

Correct Marks : 5 Wrong Marks : 1

Question Key Details :

Key	Value
Comprehension	MCQ

Match List I with List II

LIST I		LIST II	
A.	Revenue Tax Receipts	I.	Govt. Employee Received Salary
B.	Revenue Non Tax Receipts	II.	Govt. received income tax from individual
C.	Revenue Plan Expenditure	III.	Govt. received license fee
D.	Non-Plan Revenue Expenditure	IV.	Govt. school students received mid day meal

Choose the correct answer from the options given below:

1. A-II, B-III, C-I, D-IV
2. A-II, B-IV, C-III, D-I
3. A-II, B-III, C-IV, D-I
4. A-II, B-I, C-III, D-IV

Options :

485584152713. 1
485584152714. 2
485584152715. 3
485584152716. 4

Question Number : 464 Question Id : 48558438179 Question Type : MCQ Option Shuffling : No Is Question Mandatory : No Calculator : None Response Time : N.A Think Time : N.A Minimum Instruction Time : 0

Correct Marks : 5 Wrong Marks : 1

Question Key Details :

Key	Value
Comprehension	MCQ

सूची I और सूची II का सुमेलन कीजिए

सूची I		सूची II	
A.	राजस्व कर रसीद	I.	सरकारी कर्मचारी को प्राप्त वेतन
B.	राजस्व गैर कर रसीद	II.	सरकार को व्यक्तिगत आमकरप्राप्त
C.	राजस्व योजना व्यय	III.	सरकार को लाईसेन्स शुल्क प्राप्त
D.	गैर-योजना राजस्व व्यय	IV.	सरकारी विद्यालय के विद्यार्थियों द्वारा मध्याह्न भोजन प्राप्त

निम्नलिखित विकल्पों में से सही उत्तर का चयन कीजिए :

1. A-II, B-III, C-I, D-IV
2. A-II, B-IV, C-III, D-I
3. A-II, B-III, C-IV, D-I
4. A-II, B-I, C-III, D-IV

Options :

485584152713. 1
485584152714. 2
485584152715. 3
485584152716. 4

Question Number : 465 Question Id : 48558438180 Question Type : MCQ Option Shuffling : No Is Question Mandatory : No Calculator : None Response Time : N.A Think Time : N.A Minimum Instruction Time : 0

Correct Marks : 5 Wrong Marks : 1

Question Key Details :

Key	Value
Comprehension	MCQ

Which of the following is not a part of the problem in popularising organic farming.

1. Lower yields relative to modern agricultural farming in the initial years.
2. No choice in production of off-season crops.
3. Organic produce have more blemishes relative to the sprayed produce.
4. It does not help in sustainable development

Options :

485584152717. 1
485584152718. 2
485584152719. 3
485584152720. 4

Question Number : 465 Question Id : 48558438180 Question Type : MCQ Option Shuffling : No Is Question Mandatory : No Calculator : None Response Time : N.A Think Time : N.A Minimum Instruction Time : 0

Correct Marks : 5 Wrong Marks : 1

Question Key Details :

Key	Value
Comprehension	MCQ

निम्नलिखित में से कौन सा जैविक खेती को लोकप्रिय बनाने में समस्या का हिस्सा नहीं है

1. प्रारंभिक वर्षों में आधुनिक कृषि खेती के सापेक्ष कम पैदावार
2. खेती-समय फसलों के उत्पादन में कोई विकल्प नहीं
3. छिड़काव किये गए उत्पादन की तुलना में जैविक उत्पादों में अधिक खर्चे होते हैं
4. यह सतत विकास में मदद नहीं करता है

Options :

- 485584152717. 1
- 485584152718. 2
- 485584152719. 3
- 485584152720. 4

Question Number : 466 Question Id : 48558438181 Question Type : MCQ Option Shuffling : No Is Question Mandatory : No Calculator : None Response Time : N.A Think Time : N.A Minimum Instruction Time : 0

Correct Marks : 5 Wrong Marks : 1

Question Key Details :

Key	Value
Comprehension	MCQ

Choose the correct sequence:

- A. Factor payments
- B. Goods and services produced and sold in the market
- C. Supply of factors of production by the households
- D. Spending on goods and services

Choose the correct answer from the options given below:

1. B, C, D, A
2. C, B, A, D
3. A, B, D, C
4. A, B, C, D

Options :

- 485584152721. 1
- 485584152722. 2
- 485584152723. 3
- 485584152724. 4

Question Number : 466 Question Id : 48558438181 Question Type : MCQ Option Shuffling : No Is Question Mandatory : No Calculator : None Response Time : N.A Think Time : N.A Minimum Instruction Time : 0

Correct Marks : 5 Wrong Marks : 1

Question Key Details :

Key	Value
Comprehension	MCQ

निम्नलिखित को सही क्रम में व्यवस्थित करें:

- A. साधन भुगतान
- B. वस्तुओं और सेवाओं का उत्पादन एवं बाजार में बिक्री
- C. हाउसहोल्ड द्वारा उत्पादन के साधनों की पूर्ति
- D. वस्तुओं और सेवाओं पर व्यय

नीचे दिए गये विकल्पों में से सही उत्तर का चुनाव करें।

- 1. B, C, D, A
- 2. C, B, A, D
- 3. A, B, D, C
- 4. A, B, C, D

Options :

- 485584152721. 1
- 485584152722. 2
- 485584152723. 3
- 485584152724. 4

Question Number : 467 Question Id : 48558438182 Question Type : MCQ Option Shuffling : No Is Question Mandatory : No Calculator : None Response Time : N.A Think Time : N.A Minimum Instruction Time : 0

Correct Marks : 5 Wrong Marks : 1

Question Key Details :

Key	Value
Comprehension	MCQ

Goods and services tax became operational from _____.

- 1. 1 July 2018
- 2. 1 June 2017
- 3. 1 July 2017
- 4. 2 June 2017

Options :

- 485584152725. 1
- 485584152726. 2
- 485584152727. 3
- 485584152728. 4

Question Number : 467 Question Id : 48558438182 Question Type : MCQ Option Shuffling : No Is Question Mandatory : No Calculator : None Response Time : N.A Think Time : N.A Minimum Instruction Time : 0

Correct Marks : 5 Wrong Marks : 1

Question Key Details :

Key	Value
Comprehension	MCQ

माल और सेवा कर _____ से लागू हो गया ।

1. 1 जुलाई 2018
2. 1 जून 2017
3. 1 जुलाई 2017
4. 2 जून 2017

Options :

485584152725. 1
485584152726. 2
485584152727. 3
485584152728. 4

Question Number : 468 Question Id : 48558438183 Question Type : MCQ Option Shuffling : No Is Question Mandatory : No Calculator : None
Response Time : N.A Think Time : N.A Minimum Instruction Time : 0

Correct Marks : 5 Wrong Marks : 1

Question Key Details :

Key	Value
Comprehension	MCQ

Match List I with List II

LIST I		LIST II	
A.	One child norm	I.	Pakistan
B.	Economic Reforms since 1988	II.	Liberal taxation policies
C.	Global Economic Group	III.	China
D.	Special Economic Zones	IV.	G-20

Choose the correct answer from the options given below:

1. A-I, B-IV, C-II, D-III
2. A-IV, B-III, C-I, D-II
3. A-III, B-I, C-IV, D-II
4. A-III, B-II, C-IV, D-I

Options :

485584152729. 1
485584152730. 2
485584152731. 3
485584152732. 4

Question Number : 468 Question Id : 48558438183 Question Type : MCQ Option Shuffling : No Is Question Mandatory : No Calculator : None
Response Time : N.A Think Time : N.A Minimum Instruction Time : 0

Correct Marks : 5 Wrong Marks : 1

Question Key Details :

Key	Value
Comprehension	MCQ

सूची I और सूची II को सुमेलित कीजिए

सूची I		सूची II	
A.	एक बच्चे का मानदंड	I.	पाकिस्तान
B.	1988 से आर्थिक सुधार	II.	उदार कर नीति
C.	वैश्विक आर्थिक समूह	III.	चीन
D.	विशेष आर्थिक क्षेत्र	IV.	जी-20

नीचे दिए गये विकल्पों में से सही उत्तर का चुनाव करें।

1. A-I, B-IV, C-II, D-III
2. A-IV, B-III, C-I, D-II
3. A-III, B-I, C-IV, D-II
4. A-III, B-II, C-IV, D-I

Options :

485584152729. 1
485584152730. 2
485584152731. 3
485584152732. 4

Question Number : 469 Question Id : 48558438184 Question Type : MCQ Option Shuffling : No Is Question Mandatory : No Calculator : None Response Time : N.A Think Time : N.A Minimum Instruction Time : 0

Correct Marks : 5 Wrong Marks : 1

Question Key Details :

Key	Value
Comprehension	MCQ

Complete the formula:

$$\text{Gross Fiscal Deficit} = \boxed{\text{Total Expenditure}} - \left(\boxed{\text{Revenue receipts}} + \boxed{?} \right)$$

1. Capital receipts
2. Debt creating Capital receipts
3. Non-debt creating capital receipts
4. Recovery of loans

Options :

485584152733. 1
485584152734. 2
485584152735. 3
485584152736. 4

Question Number : 469 Question Id : 48558438184 Question Type : MCQ Option Shuffling : No Is Question Mandatory : No Calculator : None Response Time : N.A Think Time : N.A Minimum Instruction Time : 0

Correct Marks : 5 Wrong Marks : 1

Question Key Details :

Key	Value
Comprehension	MCQ

सूत्र को पूरा करें।

$$\text{सकल राजकोषीय घाटा} = \boxed{\text{कुल व्यय}} - \left(\boxed{\text{राजस्व प्राप्तियाँ}} + \boxed{?} \right)$$

1. पूंजी प्राप्तियां
2. ऋण सृजित पूंजीगत प्राप्तियां
3. गैर-ऋण सृजित पूंजीगत प्राप्तियां
4. ऋणों की वसूली

Options :

485584152733. 1
485584152734. 2
485584152735. 3
485584152736. 4

Question Number : 470 Question Id : 48558438185 Question Type : MCQ Option Shuffling : No Is Question Mandatory : No Calculator : None Response Time : N.A Think Time : N.A Minimum Instruction Time : 0

Correct Marks : 5 Wrong Marks : 1

Question Key Details :

Key	Value
Comprehension	MCQ

Some of the central Public Sector Enterprises are designated with different status. Hindustan Aeronautics Limited and Mahanagar Telephone Nigam Limited are designated as one among the following. Choose the correct answer:

1. Maharatnas
2. Navratnas
3. Pancha Ratnas
4. Miniratnas

Options :

485584152737. 1
485584152738. 2
485584152739. 3
485584152740. 4

Question Number : 470 Question Id : 48558438185 Question Type : MCQ Option Shuffling : No Is Question Mandatory : No Calculator : None Response Time : N.A Think Time : N.A Minimum Instruction Time : 0

Correct Marks : 5 Wrong Marks : 1

Question Key Details :

Key	Value
Comprehension	MCQ

कुछ केन्द्रीय सार्वजनिक क्षेत्र के उद्यमों को अलग स्थिति से नामित किया गया है। हिंदुस्तान एरोनॉटिक्स लिमिटेड और महानगर टेलीफोन नगर लिमिटेड को निम्नलिखित में से एक के रूप में नामित किया गया है। सही उत्तर का चयन करें।

1. महारतन
2. नवरत्न
3. पंच रत्न
4. मिनीरत्न

Options :

485584152737. 1
485584152738. 2
485584152739. 3
485584152740. 4

Question Number : 471 Question Id : 48558438186 Question Type : MCQ Option Shuffling : No Is Question Mandatory : No Calculator : None Response Time : N.A Think Time : N.A Minimum Instruction Time : 0

Correct Marks : 5 Wrong Marks : 1

Question Key Details :

Key	Value
Comprehension	MCQ

Under Statutory Liquidity Ratio, commercial banks are required to keep a fraction of _____ in the form of liquid assets.

1. Total deposits
2. Term deposits
3. Current deposits
4. Total demand and term deposits

Options :

485584152741. 1
485584152742. 2
485584152743. 3
485584152744. 4

Question Number : 471 Question Id : 48558438186 Question Type : MCQ Option Shuffling : No Is Question Mandatory : No Calculator : None Response Time : N.A Think Time : N.A Minimum Instruction Time : 0

Correct Marks : 5 Wrong Marks : 1

Question Key Details :

Key	Value
Comprehension	MCQ

वैधानिक तरलता अनुपात के तहत, वाणिज्यिक बैंकों को तरल संपत्ति के रूप में एक अंश रखना आवश्यक है।

1. कुल जमा
2. शर्त जमा
3. चालू जमा
4. कुल मांग और सावधि जमा

Options :

485584152741. 1
485584152742. 2

485584152743. 3
485584152744. 4

Question Number : 472 Question Id : 48558438187 Question Type : MCQ Option Shuffling : No Is Question Mandatory : No Calculator : None
Response Time : N.A Think Time : N.A Minimum Instruction Time : 0

Correct Marks : 5 Wrong Marks : 1

Question Key Details :

Key	Value
Comprehension	MCQ

Match List I with List II

LIST I		LIST II	
Name of the Scheme		Year of Launch	
A.	Jan Dhan Yojana	I.	2005
B.	Task force on Projection of minimum needs	II.	1962
C.	Mahatma Gandhi National Rural Employment Guarantee Act	III.	1979
D.	Study Group formed by Planning Commission for poverty	IV.	2014

Choose the correct answer from the options given below:

1. A-IV, B-III, C-I, D-II
2. A-II, B-III, C-I, D-IV
3. A-IV, B-III, C-II, D-I
4. A-III, B-II, C-IV, D-I

Options :

485584152745. 1
485584152746. 2
485584152747. 3
485584152748. 4

Question Number : 472 Question Id : 48558438187 Question Type : MCQ Option Shuffling : No Is Question Mandatory : No Calculator : None
Response Time : N.A Think Time : N.A Minimum Instruction Time : 0

Correct Marks : 5 Wrong Marks : 1

Question Key Details :

Key	Value
Comprehension	MCQ

सूची I और सूची II का मिलान करें।

सूची I		सूची II	
A.	जन धन योजना	I.	2005
B.	न्यूनतम जरूरतों के प्रक्षेपण पर टास्क फोर्स	II.	1962
C.	महात्मा गाँधी राष्ट्रीय ग्रामीण रोजगार पारित अधिनियम	III.	1979
D.	गरीबी के लिए योजना आयोग द्वारा गठित अध्ययन समूह	IV.	2014

निम्नलिखित विकल्पों में से सही उत्तर का चयन कीजिए :

1. A-IV, B-III, C-I, D-II
2. A-II, B-III, C-I, D-IV
3. A-IV, B-III, C-II, D-I
4. A-III, B-II, C-IV, D-I

Options :

485584152745. 1
485584152746. 2
485584152747. 3
485584152748. 4

Question Number : 473 Question Id : 48558438188 Question Type : MCQ Option Shuffling : No Is Question Mandatory : No Calculator : None Response Time : N.A Think Time : N.A Minimum Instruction Time : 0

Correct Marks : 5 Wrong Marks : 1

Question Key Details :

Key	Value
Comprehension	MCQ

Identify the objective achieved by imposing heavy taxes on production units engaged in producing harmful product like liquor, cigarettes etc.

1. Redistribution of income and wealth.
2. Economic Stability
3. Reallocation of Resources
4. Management of Public Enterprises

Options :

485584152749. 1
485584152750. 2
485584152751. 3
485584152752. 4

Question Number : 473 Question Id : 48558438188 Question Type : MCQ Option Shuffling : No Is Question Mandatory : No Calculator : None Response Time : N.A Think Time : N.A Minimum Instruction Time : 0

Correct Marks : 5 Wrong Marks : 1

Question Key Details :

Key	Value
Comprehension	MCQ

हानिकारक उत्पाद जैसे शराब, सिगरेट आदि के उत्पादन इकाइयों पर भारी कर लगाकर हासिल किये गये उद्देश्य की पहचान कीजिए:

1. आय और धन का पुनर्वितरण
2. आर्थिक स्थिरता
3. संसाधनों का पुनर्निर्वाह
4. सार्वजनिक उद्यमों का प्रबन्धन

Options :

- 485584152749. 1
- 485584152750. 2
- 485584152751. 3
- 485584152752. 4

Question Number : 474 Question Id : 48558438189 Question Type : MCQ Option Shuffling : No Is Question Mandatory : No Calculator : None Response Time : N.A Think Time : N.A Minimum Instruction Time : 0

Correct Marks : 5 Wrong Marks : 1

Question Key Details :

Key	Value
Comprehension	MCQ

If aggregate demand exceeds aggregate supply at full employment level, the gap which occurs is known as

1. Deflationary gap
2. Excess demand
3. Excess supply
4. Inflationary gap

Options :

- 485584152753. 1
- 485584152754. 2
- 485584152755. 3
- 485584152756. 4

Question Number : 474 Question Id : 48558438189 Question Type : MCQ Option Shuffling : No Is Question Mandatory : No Calculator : None Response Time : N.A Think Time : N.A Minimum Instruction Time : 0

Correct Marks : 5 Wrong Marks : 1

Question Key Details :

Key	Value
Comprehension	MCQ

यदि कुल मांग पूर्ण रोजगार स्तर पर कुल आपूर्ति से अधिक हो जाती है, तो जो अंतर होता है, उसे ----- कहा जाता है

1. अस्फिती अन्तराल
2. अतिरिक्त मांग
3. अतिरिक्त आपूर्ति
4. मुद्रास्फीति अन्तराल

Options :

- 485584152753. 1
- 485584152754. 2

485584152755. 3
485584152756. 4

Question Number : 475 Question Id : 48558438190 Question Type : MCQ Option Shuffling : No Is Question Mandatory : No Calculator : None
Response Time : N.A Think Time : N.A Minimum Instruction Time : 0

Correct Marks : 5 Wrong Marks : 1

Question Key Details :

Key	Value
Comprehension	MCQ

Identify the factor which will not promote 'Human Capital Formation':

1. Poverty
2. Education
3. Health
4. On-the job training

Options :

485584152757. 1
485584152758. 2
485584152759. 3
485584152760. 4

Question Number : 475 Question Id : 48558438190 Question Type : MCQ Option Shuffling : No Is Question Mandatory : No Calculator : None
Response Time : N.A Think Time : N.A Minimum Instruction Time : 0

Correct Marks : 5 Wrong Marks : 1

Question Key Details :

Key	Value
Comprehension	MCQ

उस कारक की पहचान करें जो "मानव पूंजी निर्माण" को बढ़ावा नहीं देगा

1. गरीबी
2. शिक्षा
3. स्वास्थ्य
4. नौकरी के दौरान प्रशिक्षण

Options :

485584152757. 1
485584152758. 2
485584152759. 3
485584152760. 4

Sub-Section Number : 2
Sub-Section Id : 4855842925
Question Shuffling Allowed : No
Is Section Default? : null

Question Number : 476 Question Id : 48558438191 Question Type : MCQ Option Shuffling : No Is Question Mandatory : No Calculator : None
Response Time : N.A Think Time : N.A Minimum Instruction Time : 0

Correct Marks : 5 Wrong Marks : 1

Question Key Details :

Key	Value
Comprehension	Compl

Case study: Read the given case study and answer the following questions :

"COVID-19 to have significant deflationary impact due to demand evaporation". Ruling out any impact of stimulus on the price situation, Chief Economic Advisor K.V. Subramaniam on Thursday said the COVID-19 pandemic has severely dented the demand for non-essential goods, creating deflationary conditions. He also said that a good part of the Rs.20 lakh crore stimulus package is designed in a manner that the fiscal deficit remains under control.

"COVID has a significant deflationary impact because demand especially for non-essential goods and services will go down significantly. Therefore, it is unlikely that there would be too much inflationary impact through fiscal deficit or stimulus package". Subramaniam told in an interview.

"The proposed stimulus package will generate demand by infusing liquidity into the system and thus perk up the economy", the CEA said.

"RBI is also taking some strategic actions to control the impact of COVID-19 situation", CEA further added.

Stimulus Package will:

1. Increase Liquidity & decrease purchasing power
2. Increase liquidity and Purchasing power
3. Decrease liquidity and increase purchasing power
4. Decrease liquidity and purchasing power

Options :

- 485584152761. 1
- 485584152762. 2
- 485584152763. 3
- 485584152764. 4

Question Number : 476 Question Id : 48558438191 Question Type : MCQ Option Shuffling : No Is Question Mandatory : No Calculator : None Response Time : N.A Think Time : N.A Minimum Instruction Time : 0

Correct Marks : 5 Wrong Marks : 1

Question Key Details :

Key	Value
Comprehension	Compl

मांग वाष्पीकरण के कारण कोविड-19 का महत्वपूर्ण अपस्फीतिकारी प्रभाव पड़ेगा। मूल्य स्थिति पर प्रोत्साहन के किसी भी प्रभाव से इंकार करते हुए मुख्य आर्थिक सलाहकार के. वी. सुब्रमण्यम ने गुरुवार को कहा कि कोविड-19 महामारी ने गैर-जरूरी सामानों की मांग को गंभीर रूप से प्रभावित किया है, जिससे अप्सफिती की स्थिति पैदा हुई है। उन्होंने यह भी कहा कि 20 लाख करोड़ रूपये के प्रोत्साहन पैकेज का एक हिस्सा इस तरह से तैयार किया गया है कि राजकोषीय घाटा नियंत्रण में रहे।

कोविड-19 का एक महत्वपूर्ण अप्सफितिकारी प्रभाव है, क्योंकि विशेष रूप से गैर आवश्यक वस्तुओं और सेवाओं की मांग में काफी कमी आएगी। इसलिए यह संभावना नहीं है कि राजकोषीय घाटा या प्रोत्साहन पैकेज के माध्यम से बहुत अधिक मुद्रास्फीतिकारी प्रभाव होगा सुब्रमण्यम ने एक इंटरव्यू में बताया।

सी. ई. ए. ने कहा कि प्रस्तावित प्रोत्साहन पैकेज सिस्टम में तरलता को बढ़ाकर मांग उत्पन्न करेगा और इस प्रकार अर्थव्यवस्था को बढ़ावा देगा।

सी. ई. ए. ने आगे कहा कि आर बी आई कोविड-19 स्थित के प्रभाव को नियंत्रित करने के लिए कुछ रणनीतिक कदम भी उठा रहे हैं।

प्रोत्साहन पैकेज _____ करेगा

1. तरलता बढ़ाएगा, क्रय क्षमता को घटाएगा
2. तरलता बढ़ाएगा, क्रय क्षमता बढ़ाएगा
3. तरलता घटाकर, क्रय क्षमता को बढ़ाएगा
4. तरलता घटाकर, क्रय क्षमता घटाएगा

Options :

485584152761. 1
485584152762. 2
485584152763. 3
485584152764. 4

Question Number : 477 Question Id : 48558438192 Question Type : MCQ Option Shuffling : No Is Question Mandatory : No Calculator : None Response Time : N.A Think Time : N.A Minimum Instruction Time : 0

Correct Marks : 5 Wrong Marks : 1

Question Key Details :

Key	Value
Comprehension	Compl

Case study: Read the given case study and answer the following questions :

"COVID-19 to have significant deflationary impact due to demand evaporation". Ruling out any impact of stimulus on the price situation, Chief Economic Advisor K.V. Subramaniam on Thursday said the COVID-19 pandemic has severely dented the demand for non-essential goods, creating deflationary conditions. He also said that a good part of the Rs.20 lakh crore stimulus package is designed in a manner that the fiscal deficit remains under control.

"COVID has a significant deflationary impact because demand especially for non-essential goods and services will go down significantly. Therefore, it is unlikely that there would be too much inflationary impact through fiscal deficit or stimulus package". Subramaniam told in an interview.

"The proposed stimulus package will generate demand by infusing liquidity into the system and thus perk up the economy", the CEA said.

"RBI is also taking some strategic actions to control the impact of COVID-19 situation", CEA further added.

At full employment level of the economy, excess aggregate demand increases (Choose any one correct option):

1. Real Income level
2. Price level
3. Output level
4. Employment level

Options :

485584152765. 1
485584152766. 2
485584152767. 3
485584152768. 4

Question Number : 477 Question Id : 48558438192 Question Type : MCQ Option Shuffling : No Is Question Mandatory : No Calculator : None Response Time : N.A Think Time : N.A Minimum Instruction Time : 0

Correct Marks : 5 Wrong Marks : 1

Question Key Details :

Key	Value
Comprehension	Compl

मांग तात्कालिकता के कारण कोविड-19 का महत्वपूर्ण अपस्फीतिकारी प्रभाव पड़ेगा। मूल्य स्थिति पर प्रोत्साहन के किसी भी प्रभाव से इंकार करते हुए मुख्य आर्थिक सलाहकार के. वी. सुब्रमण्यम ने गुरुवार को कहा कि कोविड-19 महामारी ने गैर-जरूरी सामानों की मांग को गंभीर रूप से प्रभावित किया है, जिससे अपस्फीती की स्थिति पैदा हुई है। उन्होंने यह भी कहा कि 20 लाख करोड़ रुपये के प्रोत्साहन पैकेज का एक हिस्सा इस तरह से तैयार किया गया है कि राजकोषीय घाटा नियंत्रण में रहे।

कोविड-19 का एक महत्वपूर्ण अपस्फीतिकारी प्रभाव है, क्योंकि विशेष रूप से गैर आवश्यक वस्तुओं और सेवाओं की मांग में काफी कमी आएगी। इसलिए यह संभावना नहीं है कि राजकोषीय घाटा या प्रोत्साहन पैकेज के माध्यम से बहुत अधिक मुद्रास्फीतिकारी प्रभाव होगा सुब्रमण्यम ने एक इंटरव्यू में बताया।

सी. ई. ए. ने कहा कि प्रस्तावित प्रोत्साहन पैकेज सिस्टम में तरलता को बढ़ाकर मांग उत्पन्न करेगा और इस प्रकार अर्थव्यवस्था को बढ़ावा देगा।

सी. ई. ए. ने आगे कहा कि आर बी आई कोविड-19 स्थित के प्रभाव को नियंत्रित करने के लिए कुछ रणनीतिक कदम भी उठा रहे हैं।

अर्थव्यवस्था में पूर्ण रोजगार की स्थिति में कुल मांग में आधिक्य निम्न में से किसे बढ़ाएगा।

1. वास्तविक आय स्तर
2. मूल्य स्तर
3. पैदावार (उपज) स्तर
4. रोजगार स्तर

Options :

485584152765. 1
485584152766. 2
485584152767. 3
485584152768. 4

Question Number : 478 Question Id : 48558438193 Question Type : MCQ Option Shuffling : No Is Question Mandatory : No Calculator : None Response Time : N.A Think Time : N.A Minimum Instruction Time : 0

Correct Marks : 5 Wrong Marks : 1

Question Key Details :

Key	Value
Comprehension	Compl

Case study: Read the given case study and answer the following questions :

“COVID-19 to have significant deflationary impact due to demand evaporation”. Ruling out any impact of stimulus on the price situation, Chief Economic Advisor K.V. Subramaniam on Thursday said the COVID-19 pandemic has severely dented the demand for non-essential goods, creating deflationary conditions. He also said that a good part of the Rs.20 lakh crore stimulus package is designed in a manner that the fiscal deficit remains under control.

“COVID has a significant deflationary impact because demand especially for non-essential goods and services will go down significantly. Therefore, it is unlikely that there would be too much inflationary impact through fiscal deficit or stimulus package”. Subramaniam told in an interview.

“The proposed stimulus package will generate demand by infusing liquidity into the system and thus perk up the economy”, the CEA said.

“RBI is also taking some strategic actions to control the impact of COVID-19 situation”, CEA further added.

Stimulus package as given in the case study is a part of:

1. Fiscal Policy
2. Banking Policy
3. Monetary Policy
4. Foreign Trade Policy

Options :

485584152769. 1
485584152770. 2
485584152771. 3
485584152772. 4

Question Number : 478 Question Id : 48558438193 Question Type : MCQ Option Shuffling : No Is Question Mandatory : No Calculator : None Response Time : N.A Think Time : N.A Minimum Instruction Time : 0

Correct Marks : 5 Wrong Marks : 1

Question Key Details :

Key	Value
Comprehension	Compl

मांग वाष्पीकरण के कारण कोविड-19 का महत्वपूर्ण अपस्फीतिकारी प्रभाव पड़ेगा। मूल्य स्थिति पर प्रोत्साहन के किसी भी प्रभाव से इंकार करते हुए मुख्य आर्थिक सलाहकार के वी. सुब्रमण्यम ने गुरुवार को कहा कि कोविड-19 महामारी ने गैर-जरूरी सामानों की मांग को गंभीर रूप से प्रभावित किया है, जिससे अप्सफिती की स्थिति पैदा हुई है। उन्होंने यह भी कहा कि 20 लाख करोड़ रूपये के प्रोत्साहन पैकेज का एक हिस्सा इस तरह से तैयार किया गया है कि राजकोषीय घाटा नियंत्रण में रहे।

कोविड-19 का एक महत्वपूर्ण अप्सफितिकारी प्रभाव है, क्योंकि विशेष रूप से गैर आवश्यक वस्तुओं और सेवाओं की मांग में काफी कमी आएगी। इसलिए यह संभावना नहीं है कि राजकोषीय घाटा या प्रोत्साहन पैकेज के माध्यम से बहुत अधिक मुद्रास्फीतिकारी प्रभाव होगा सुब्रमण्यम ने एक इंटरव्यू में बताया।

सी. ई. ए. ने कहा कि प्रस्तावित प्रोत्साहन पैकेज सिस्टम में तरलता को बढ़ाकर मांग उत्पन्न करेगा और इस प्रकार अर्थव्यवस्था को बढ़ावा देगा।

सी. ई. ए. ने आगे कहा कि आर बी आई कोविड-19 स्थित के प्रभाव को नियंत्रित करने के लिए कुछ रणनीतिक कदम भी उठा रहे हैं।

प्रोत्साहन पैकेज जो इस केस स्टडी में उल्लेखित है, वह _____ है।

1. राजकोषीय नीति
2. बैंकिंग नीति
3. मौद्रिक नीति
4. विदेश-व्यापार नीति

Options :

485584152769. 1
485584152770. 2
485584152771. 3
485584152772. 4

Question Number : 479 Question Id : 48558438194 Question Type : MCQ Option Shuffling : No Is Question Mandatory : No Calculator : None Response Time : N.A Think Time : N.A Minimum Instruction Time : 0

Correct Marks : 5 Wrong Marks : 1

Question Key Details :

Key	Value
Comprehension	Comp1

Case study: Read the given case study and answer the following questions :

"COVID-19 to have significant deflationary impact due to demand evaporation". Ruling out any impact of stimulus on the price situation. Chief Economic Advisor K.V. Subramaniam on Thursday said the COVID-19 pandemic has severely dented the demand for non-essential goods, creating deflationary conditions. He also said that a good part of the Rs.20 lakh crore stimulus package is designed in a manner that the fiscal deficit remains under control.

"COVID has a significant deflationary impact because demand especially for non-essential goods and services will go down significantly. Therefore, it is unlikely that there would be too much inflationary impact through fiscal deficit or stimulus package". Subramaniam told in an interview.

"The proposed stimulus package will generate demand by infusing liquidity into the system and thus perk up the economy", the CEA said.

"RBI is also taking some strategic actions to control the impact of COVID-19 situation", CEA further added.

RBI may take following step to overcome the deflationary situation:

1. Increase SLR
2. Sell securities in Open market
3. Decrease margin requirement
4. Restrict credit creation

Options :

485584152773. 1
 485584152774. 2
 485584152775. 3
 485584152776. 4

Question Number : 479 Question Id : 48558438194 Question Type : MCQ Option Shuffling : No Is Question Mandatory : No Calculator : None Response Time : N.A Think Time : N.A Minimum Instruction Time : 0

Correct Marks : 5 Wrong Marks : 1

Question Key Details :

Key	Value
Comprehension	Comp1

मांग तापीकरण के कारण कोविड-19 का महत्वपूर्ण अपस्फीतिकारी प्रभाव पड़ेगा। मूल्य स्थिति पर प्रोत्साहन के किसी भी प्रभाव से इंकार करते हुए मुख्य आर्थिक सलाहकार के. वी. सुब्रमण्यम ने गुरुवार को कहा कि कोविड-19 महामारी ने गैर-जरूरी सामानों की मांग को गंभीर रूप से प्रभावित किया है, जिससे अप्सफिती की स्थिति पैदा हुई है। उन्होंने यह भी कहा कि 20 लाख करोड़ रूपये के प्रोत्साहन पैकेज का एक हिस्सा इस तरह से तैयार किया गया है कि राजकोषीय घाटा नियंत्रण में रहे।

कोविड-19 का एक महत्वपूर्ण अप्सफितिकारी प्रभाव है, क्योंकि विशेष रूप से गैर आवश्यक वस्तुओं और सेवाओं की मांग में काफी कमी आएगी। इसलिए यह संभावना नहीं है कि राजकोषीय घाटा या प्रोत्साहन पैकेज के माध्यम से बहुत अधिक मुद्रास्फीतिकारी प्रभाव होगा सुब्रमण्यम ने एक इंटरव्यू में बताया।

सी. ई. ए. ने कहा कि प्रस्तावित प्रोत्साहन पैकेज सिस्टम में तरलता को बढ़ाकर मांग उत्पन्न करेगा और इस प्रकार अर्थव्यवस्था को बढ़ावा देगा।

सी. ई. ए. ने आगे कहा कि आर बी आई कोविड-19 स्थित के प्रभाव को नियंत्रित करने के लिए कुछ रणनीतिक कदम भी उठा रहे हैं।

रिजर्व बैंक ऑफ इंडिया निम्नलिखित में से एक कार्य कर सकती है जिससे अपस्फिति की स्थिति को सुधारा जा सकता है।

1. वैधानिक तरलता अनुपात बढ़ाए
2. खुले बाजार में प्रतिभूतियां बेचना
3. मार्जिन की आवश्यकता कम करें
4. क्रेडिट निर्माण को प्रतिबंधित करें

Options :

485584152773. 1
485584152774. 2
485584152775. 3
485584152776. 4

Question Number : 480 Question Id : 48558438195 Question Type : MCQ Option Shuffling : No Is Question Mandatory : No Calculator : None Response Time : N.A Think Time : N.A Minimum Instruction Time : 0

Correct Marks : 5 Wrong Marks : 1

Question Key Details :

Key	Value
Comprehension	Compl

Case study: Read the given case study and answer the following questions :

"COVID-19 to have significant deflationary impact due to demand evaporation". Ruling out any impact of stimulus on the price situation, Chief Economic Advisor K.V. Subramaniam on Thursday said the COVID-19 pandemic has severely dented the demand for non-essential goods, creating deflationary conditions. He also said that a good part of the Rs.20 lakh crore stimulus package is designed in a manner that the fiscal deficit remains under control.

"COVID has a significant deflationary impact because demand especially for non-essential goods and services will go down significantly. Therefore, it is unlikely that there would be too much inflationary impact through fiscal deficit or stimulus package". Subramaniam told in an interview.

"The proposed stimulus package will generate demand by infusing liquidity into the system and thus perk up the economy", the CEA said.

"RBI is also taking some strategic actions to control the impact of COVID-19 situation", CEA further added.

'Dented the market for non-essential goods means' _____

1. Created a new market for luxury goods.
2. Decreased demand for discretionary goods or non-essential goods.
3. Increased the demand for essential goods.
4. Increased exports of non-essential goods.

Options :

485584152777. 1
485584152778. 2
485584152779. 3
485584152780. 4

Question Number : 480 Question Id : 48558438195 Question Type : MCQ Option Shuffling : No Is Question Mandatory : No Calculator : None Response Time : N.A Think Time : N.A Minimum Instruction Time : 0

Correct Marks : 5 Wrong Marks : 1

Question Key Details :

Key	Value
-----	-------

मांग तात्कालिकता के कारण कोविड-19 का महत्वपूर्ण अपस्फीतिकारी प्रभाव पड़ेगा। मूल्य स्थिति पर प्रोत्साहन के किसी भी प्रभाव से इंकार करते हुए मुख्य आर्थिक सलाहकार के. वी. सुब्रमण्यम ने गुरुवार को कहा कि कोविड-19 महामारी ने गैर-जरूरी सामानों की मांग को गंभीर रूप से प्रभावित किया है, जिससे अपस्फीती की स्थिति पैदा हुई है। उन्होंने यह भी कहा कि 20 लाख करोड़ रुपये के प्रोत्साहन पैकेज का एक हिस्सा इस तरह से तैयार किया गया है कि राजकोषीय घाटा नियंत्रण में रहे।

कोविड-19 का एक महत्वपूर्ण अपस्फीतिकारी प्रभाव है, क्योंकि विशेष रूप से गैर आवश्यक वस्तुओं और सेवाओं की मांग में काफी कमी आएगी। इसलिए यह संभावना नहीं है कि राजकोषीय घाटा या प्रोत्साहन पैकेज के माध्यम से बहुत अधिक मुद्रास्फीतिकारी प्रभाव होगा सुब्रमण्यम ने एक इंटरव्यू में बताया।

सी. ई. ए. ने कहा कि प्रस्तावित प्रोत्साहन पैकेज सिस्टम में तरलता को बढ़ाकर मांग उत्पन्न करेगा और इस प्रकार अर्थव्यवस्था को बढ़ावा देगा।

सी. ई. ए. ने आगे कहा कि आर बी आई कोविड-19 स्थित के प्रभाव को नियंत्रित करने के लिए कुछ रणनीतिक कदम भी उठा रहे हैं।

गैर-जरूरी सामानों के लिए बाजार में सेंध लगाई मतलब

1. विलासिता की वस्तुओं के लिए एक नया बाजार तैयार किया
2. पसंद की वस्तुओं या गैर-आवश्यक वस्तुओं की मांग में कमी
3. आवश्यक वस्तुओं की बढ़ी मांग
4. गैर-आवश्यक वस्तुओं का निर्यात बढ़ा

Options :

485584152777. 1
485584152778. 2
485584152779. 3
485584152780. 4

Sub-Section Number :	3
Sub-Section Id :	4855842926
Question Shuffling Allowed :	No
Is Section Default? :	null

Question Number : 481 Question Id : 48558438196 Question Type : MCQ Option Shuffling : No Is Question Mandatory : No Calculator : None Response Time : N.A Think Time : N.A Minimum Instruction Time : 0

Correct Marks : 5 Wrong Marks : 1

Question Key Details :

Key	Value
Comprehension	Comp2

Read the given passage and answer the following questions :

Some measures initiated to improve the marketing aspect to regulation of market to create orderly and transparent marketing conditions. Hence this policy benefited the farmers and as well as consumers. Another measure is physical infrastructure facilities like roads, railways, Godowns, storages, warehouses and processing units. This aspect is cooperative marketing in realising fair prices for farmers. The fourth element of policy instrument of Govt is assurance of minimum support prices for Agricultural products and maintenance of buffer stocks of wheat and rice by food corporation of India and distribution of food grains and sugar through PDS. These instruments are aimed at protecting the income of the farmers and providing food grains at a subsidised rate to the poor.

How many measures are taken by the Govt to improve marketing

1. Four
2. Three
3. One
4. None

Options :

485584152781. 1
485584152782. 2
485584152783. 3
485584152784. 4

Question Number : 481 Question Id : 48558438196 Question Type : MCQ Option Shuffling : No Is Question Mandatory : No Calculator : None Response Time : N.A Think Time : N.A Minimum Instruction Time : 0

Correct Marks : 5 Wrong Marks : 1

Question Key Details :

Key	Value
Comprehension	Comp2

व्यवस्थित और पारदर्शी विपणन स्थितियों को बनाने के लिए बाजार के नियमन के विपणन पहलू में सुधार के लिए कुछ उपाय शुरू किये गये हैं। इसलिए इस नीति से किसानों के साथ-साथ उपभोक्ताओं को भी लाभ हुआ। एक अन्य उपाय भौतिक अवसंरचना सुविधाएँ जैसे, सड़कें, रेलवे, गोदाम, भंडारण और प्रसंस्करण इकाइयाँ हैं। तीसरा पहलू है कि किसानों के लिए उचित मूल्य प्राप्त करने में सहायक विपणन भी सहायक हैं। सरकार के नीति साधन का चौथा तत्व कृषि उत्पादों के लिए न्यूनतम समर्थन मूल्य का आश्वासन और भारतीय खाद्य निगम द्वारा गेहूँ और चावल के बफर स्टॉक का रखरखाव और चीनी का वितरण है। इन उपकरणों का उद्देश्य किसानों की आय की रक्षा करना और गरीबों की रियायती दर पर खाद्यान्न उपलब्ध करना है।

विपणन में सुधार के लिए सरकार द्वारा कितने सुधार किये गये हैं।

1. चार
2. तीन
3. एक
4. कोई नहीं

Options :

485584152781. 1
485584152782. 2
485584152783. 3
485584152784. 4

Question Number : 482 Question Id : 48558438197 Question Type : MCQ Option Shuffling : No Is Question Mandatory : No Calculator : None Response Time : N.A Think Time : N.A Minimum Instruction Time : 0

Correct Marks : 5 Wrong Marks : 1

Question Key Details :

Key	Value
Comprehension	Comp2

Read the given passage and answer the following questions :

Some measures initiated to improve the marketing aspect to regulation of market to create orderly and transparent marketing conditions. Hence this policy benefited the farmers and as well as consumers. Another measure is physical infrastructure facilities like roads, railways, Godowns, storages, warehouses and processing units. This aspect is cooperative marketing in realising fair prices for farmers. The fourth element of policy instrument of Govt is assurance of minimum support prices for Agricultural products and maintenance of buffer stocks of wheat and rice by food corporation of India and distribution of food grains and sugar through PDS. These instruments are aimed at protecting the income of the farmers and providing food grains at a subsidised rate to the poor.

What is Cooperative marketing

1. It is the assurance of minimum support price for Agricultural products.
2. To maintain buffer stocks of wheat and rice.
3. It is the policy instrument in realising fair prices for farmers.
4. To maintain physical infrastructure

Options :

485584152785. 1
485584152786. 2
485584152787. 3
485584152788. 4

Question Number : 482 Question Id : 48558438197 Question Type : MCQ Option Shuffling : No Is Question Mandatory : No Calculator : None Response Time : N.A Think Time : N.A Minimum Instruction Time : 0

Correct Marks : 5 Wrong Marks : 1

Question Key Details :

Key	Value
Comprehension	Comp2

व्यवस्थित और पारदर्शी विपणन स्थितियों को बनाने के लिए बाजार के नियमन के विपणन पहलू में सुधार के लिए कुछ उपाय शुरू किये गये हैं। इसलिए इस नीति से किसानों के साथ-साथ उपभोक्ताओं को भी लाभ हुआ। एक अन्य उपाय भौतिक अवसंरचना सुविधाएँ जैसे, सड़कें, रेलवे, गोदाम, भंडारण और प्रसंस्करण इकाइयाँ हैं। तीसरा पहलू है कि किसानों के लिए उचित मूल्य प्राप्त करने में सहायक विपणन भी सहायक है। सरकार के नीति साधन का चौथा तत्व कृषि उत्पादों के लिए न्यूनतम समर्थन मूल्य का आश्वासन और भारतीय खाद्य निगम द्वारा गेहूँ और चावल के बफर स्टॉक का रखरखाव और चीनी का वितरण है। इन उपकरणों का उद्देश्य किसानों की आय की रक्षा करना और गरीबों की रियायती दर पर खाद्यान्न उपलब्ध करना है।

को-ऑपरेटिव मार्केटिंग क्या है?

1. यह कृषि उत्पादों के लिए न्यूनतम समर्थन मूल्य का आश्वासन है।
2. गेहूँ और चावल का बफर स्टॉक बनाये रखना।
3. यह किसान के लिए उचित मूल्य प्राप्त करने का नीतिगत साधन है।
4. भौतिक बुनियादी ढांचे को बनाए रखने के लिए।

Options :

485584152785. 1
485584152786. 2
485584152787. 3
485584152788. 4

Question Number : 483 Question Id : 48558438198 Question Type : MCQ Option Shuffling : No Is Question Mandatory : No Calculator : None
Response Time : N.A Think Time : N.A Minimum Instruction Time : 0

Correct Marks : 5 Wrong Marks : 1

Question Key Details :

Key	Value
Comprehension	Comp2

Read the given passage and answer the following questions :

Some measures initiated to improve the marketing aspect to regulation of market to create orderly and transparent marketing conditions. Hence this policy benefited the farmers and as well as consumers. Another measure is physical infrastructure facilities like roads, railways, Godowns, storages, warehouses and processing units. This aspect is cooperative marketing in realising fair prices for farmers. The fourth element of policy instrument of Govt is assurance of minimum support prices for Agricultural products and maintenance of buffer stocks of wheat and rice by food corporation of India and distribution of food grains and sugar through PDS. These instruments are aimed at protecting the income of the farmers and providing food grains at a subsidised rate to the poor.

What is MSP?

1. It is the minimum support price
2. It is the stock of wheat and rice.
3. It is cooperative marketing
4. It is the income of farmers

Options :

485584152789. 1
485584152790. 2
485584152791. 3
485584152792. 4

Question Number : 483 Question Id : 48558438198 Question Type : MCQ Option Shuffling : No Is Question Mandatory : No Calculator : None
Response Time : N.A Think Time : N.A Minimum Instruction Time : 0

Correct Marks : 5 Wrong Marks : 1

Question Key Details :

Key	Value
Comprehension	Comp2

व्यवस्थित और पारदर्शी विपणन स्थितियों को बनाने के लिए बाजार के नियमन के विपणन पहलू में सुधार के लिए कुछ उपाय शुरू किये गये हैं। इसलिए इस नीति से किसानों के साथ-साथ उपभोक्ताओं को भी लाभ हुआ। एक अन्य उपाय भौतिक अवसंरचना सुविधाएँ जैसे, सड़कें, रेलवे, गोदाम, भंडारण और प्रसंस्करण इकाइयाँ हैं। तीसरा पहलू है कि किसानों के लिए उचित मूल्य प्राप्त करने में सहायक विपणन भी सहायक हैं। सरकार के नीति साधन का चौथा तत्व कृषि उत्पादों के लिए न्यूनतम समर्थन मूल्य का आश्वासन और भारतीय खाद्य निगम द्वारा गेहूँ और चावल के बफर स्टॉक का रखरखाव और चीनी का वितरण है। इन उपकरणों का उद्देश्य किसानों की आय की रक्षा करना और गरीबों की रियायती दर पर खाद्यान्न उपलब्ध करना है।

एम. एस. पी. क्या है?

1. यह न्यूनतम समर्थन मूल्य है।
2. यह गेहूँ और चावल का भंडारण है।
3. यह को-ऑपरेटिव विपणन है।
4. यह किसानों की आय है।

Options :

485584152789. 1
485584152790. 2
485584152791. 3
485584152792. 4

Question Number : 484 Question Id : 48558438199 Question Type : MCQ Option Shuffling : No Is Question Mandatory : No Calculator : None Response Time : N.A Think Time : N.A Minimum Instruction Time : 0

Correct Marks : 5 Wrong Marks : 1

Question Key Details :

Key	Value
Comprehension	Comp2

Read the given passage and answer the following questions :

Some measures initiated to improve the marketing aspect to regulation of market to create orderly and transparent marketing conditions. Hence this policy benefited the farmers and as well as consumers. Another measure is physical infrastructure facilities like roads, railways, Godowns, storages, warehouses and processing units. This aspect is cooperative marketing in realising fair prices for farmers. The fourth element of policy instrument of Govt is assurance of minimum support prices for Agricultural products and maintenance of buffer stocks of wheat and rice by food corporation of India and distribution of food grains and sugar through PDS. These instruments are aimed at protecting the income of the farmers and providing food grains at a subsidised rate to the poor.

Why the Govt has taken initiative to improve marketing?

1. To create schools in villages.
2. To create orderly transparent marketing conditions and to improve marketing aspect.
3. To educate farmers about farming.
4. To create proper communication facilities in villages.

Options :

485584152793. 1
485584152794. 2
485584152795. 3
485584152796. 4

Question Number : 484 Question Id : 48558438199 Question Type : MCQ Option Shuffling : No Is Question Mandatory : No Calculator : None Response Time : N.A Think Time : N.A Minimum Instruction Time : 0

Correct Marks : 5 Wrong Marks : 1

Question Key Details :

Key	Value
Comprehension	Comp2

व्यवस्थित और पारदर्शी विपणन स्थितियों को बनाने के लिए बाजार के नियमन के विपणन पहलू में सुधार के लिए कुछ उपाय शुरू किये गये हैं। इसलिए इस नीति से किसानों के साथ-साथ उपभोक्ताओं को भी लाभ हुआ। एक अन्य उपाय भौतिक अवसंरचना सुविधाएँ जैसे, सड़कें, रेलवे, गोदाम, भंडारण और प्रसंस्करण इकाइयाँ हैं। तीसरा पहलू है कि किसानों के लिए उचित मूल्य प्राप्त करने में सहकारी विपणन भी सहायक हैं। सरकार के नीति साधन का चौथा तत्व कृषि उत्पादों के लिए न्यूनतम समर्थन मूल्य का आश्वासन और भारतीय खाद्य निगम द्वारा गेहूँ और चावल के बफर स्टॉक का रखरखाव और चीनी का वितरण है। इन उपकरणों का उद्देश्य किसानों की आय की रक्षा करना और गरीबों की रियायती दर पर खाद्यान्न उपलब्ध करना है।

सरकार विपणन को बेहतर क्यों बनाना चाहती है?

1. गावों में स्कूलों की स्थापना के लिए।
2. व्यवस्थित पारदर्शी विपणन स्थितियों का निर्माण करना और विपणन पहलुओं में सुधार करना।
3. किसानों को कृषि के बारे में शिक्षित करने के लिए।
4. गावों में उपयुक्त संचार सुविधा का सृजन करने के लिए।

Options :

485584152793. 1
485584152794. 2
485584152795. 3
485584152796. 4

Question Number : 485 Question Id : 48558438200 Question Type : MCQ Option Shuffling : No Is Question Mandatory : No Calculator : None Response Time : N.A Think Time : N.A Minimum Instruction Time : 0

Correct Marks : 5 Wrong Marks : 1

Question Key Details :

Key	Value
Comprehension	Comp2

Read the given passage and answer the following questions :

Some measures initiated to improve the marketing aspect to regulation of market to create orderly and transparent marketing conditions. Hence this policy benefited the farmers and as well as consumers. Another measure is physical infrastructure facilities like roads, railways, Godowns, storages, warehouses and processing units. This aspect is cooperative marketing in realising fair prices for farmers. The fourth element of policy instrument of Govt is assurance of minimum support prices for Agricultural products and maintenance of buffer stocks of wheat and rice by food corporation of India and distribution of food grains and sugar through PDS. These instruments are aimed at protecting the income of the farmers and providing food grains at a subsidised rate to the poor.

What is the third aspect of Govt Initiative

1. To improve marketing aspect
2. To protect income of farmers
3. To control MSP
4. Cooperative Marketing

Options :

485584152797. 1
485584152798. 2
485584152799. 3
485584152800. 4

Question Number : 485 Question Id : 48558438200 Question Type : MCQ Option Shuffling : No Is Question Mandatory : No Calculator : None Response Time : N.A Think Time : N.A Minimum Instruction Time : 0

Correct Marks : 5 Wrong Marks : 1

Question Key Details :

Key	Value
Comprehension	Comp2

व्यवस्थित और पारदर्शी विपणन स्थितियों को बनाने के लिए बाजार के नियमन के विपणन पहलू में सुधार के लिए कुछ उपाय शुरू किये गये हैं। इसलिए इस नीति से किसानों के साथ-साथ उपभोक्ताओं को भी लाभ हुआ। एक अन्य उपाय भौतिक अवसंरचना सुविधाएँ जैसे, सड़कें, रेलवे, गोदाम, भंडारण और प्रसंस्करण इकाइयाँ हैं। तीसरा पहलू है कि किसानों के लिए उचित मूल्य प्राप्त करने में सहायक विपणन भी सहायक हैं। सरकार के नीति साधन का चौथा तत्व कृषि उत्पादों के लिए न्यूनतम समर्थन मूल्य का आश्वासन और भारतीय खाद्य निगम द्वारा गेहूँ और चावल के बफर स्टॉक का रखरखाव और चीनी का वितरण है। इन उपकरणों का उद्देश्य किसानों की आय की रक्षा करना और गरीबों की रियायती दर पर खाद्यान्न उपलब्ध करना है।

सरकार की पहल का तीसरा पहलू क्या है।

1. विपणन पहलूओं में सुधार करना
2. किसानों की आय की रक्षा करना
3. एम. एस. पी. को नियंत्रित करना
4. को-ऑपरेटिव विपणन

Options :

485584152797. 1
485584152798. 2
485584152799. 3
485584152800. 4

Entrepreneurship

Group Number :	11
Group Id :	485584892
Group Maximum Duration :	45
Group Minimum Duration :	45
Show Attended Group? :	No
Edit Attended Group? :	No
Break time :	0
Group Marks :	200
Is this Group for Examiner? :	No
Examiner permission :	Cant View
Show Progress Bar? :	No

Entrepreneurship

Section Id :	4855841034
Section Number :	1
Section type :	Online
Mandatory or Optional :	Mandatory
Number of Questions :	50
Number of Questions to be attempted :	40
Section Marks :	200
Enable Mark as Answered Mark for Review and Clear Response :	Yes
Maximum Instruction Time :	0
Sub-Section Number :	1
Sub-Section Id :	4855842927

Question Shuffling Allowed :
Is Section Default? :

Yes
null

Question Number : 486 Question Id : 48558438251 Question Type : MCQ Option Shuffling : No Is Question Mandatory : No Calculator : None
Response Time : N.A Think Time : N.A Minimum Instruction Time : 0

Correct Marks : 5 Wrong Marks : 1

Question Key Details :

Key	Value
Comprehension	MCQ

Generation and ideas can be streamlined by developing an awareness for different idea fields select the sources of idea fields.

- A. Trading Related
- B. Creative Efforts
- C. Social
- D. Economic
- E. Natural Resources

Choose the correct answer from the options given below:

1. A, B and C Only
2. A, B and D Only
3. A, C and B Only
4. A, B and E Only

Options :

- 485584153001. 1
- 485584153002. 2
- 485584153003. 3
- 485584153004. 4

Question Number : 486 Question Id : 48558438251 Question Type : MCQ Option Shuffling : No Is Question Mandatory : No Calculator : None
Response Time : N.A Think Time : N.A Minimum Instruction Time : 0

Correct Marks : 5 Wrong Marks : 1

Question Key Details :

Key	Value
Comprehension	MCQ

अलग-अलग विचार क्षेत्र विकसित जागरूकता के द्वारा विचारों के सृजन को व्यवस्थित करना। विचार क्षेत्र के स्रोतों की पहचान करें

- A. व्यापार संबंधित
- B. रचनात्मक प्रयास
- C. सामाजिक
- D. आर्थिक
- E. प्राकृतिक स्रोत

नीचे दिए गए विकल्पों में से सही उत्तर का चयन कीजिए :

1. केवल A, B, C
2. केवल A, B, D
3. केवल A, C, B
4. केवल A, B, E

Options :

- 485584153001. 1
- 485584153002. 2
- 485584153003. 3
- 485584153004. 4

Question Number : 487 Question Id : 48558438252 Question Type : MCQ Option Shuffling : No Is Question Mandatory : No Calculator : None Response Time : N.A Think Time : N.A Minimum Instruction Time : 0

Correct Marks : 5 Wrong Marks : 1

Question Key Details :

Key	Value
Comprehension	MCQ

Process of creativity involves five steps. Select correct sequences:

- A. Incubation
- B. Preparation
- C. Idea Germination
- D. Illumination
- E. Verification

1. A, B, C, D, E
2. B, C, D, A, E
3. C, B, A, D, E
4. E, A, B, C, D

Options :

- 485584153005. 1
- 485584153006. 2
- 485584153007. 3
- 485584153008. 4

Question Number : 487 Question Id : 48558438252 Question Type : MCQ Option Shuffling : No Is Question Mandatory : No Calculator : None Response Time : N.A Think Time : N.A Minimum Instruction Time : 0

Correct Marks : 5 Wrong Marks : 1

Question Key Details :

Key	Value
Comprehension	MCQ

रचनात्मक प्रक्रिया के पाँच चरण हैं, उनके सही क्रम को चुनें :

- A. उद्भव
- B. तैयारी
- C. विचार का स्रोत
- D. उद्दीपन
- E. संस्थापन

- 1. A, B, C, D, E
- 2. B, C, D, A, E
- 3. C, B, A, D, E
- 4. E, A, B, C, D

Options :

- 485584153005. 1
- 485584153006. 2
- 485584153007. 3
- 485584153008. 4

Question Number : 488 Question Id : 48558438253 Question Type : MCQ Option Shuffling : No Is Question Mandatory : No Calculator : None Response Time : N.A Think Time : N.A Minimum Instruction Time : 0

Correct Marks : 5 Wrong Marks : 1

Question Key Details :

Key	Value
Comprehension	MCQ

Match List I with List II

LIST I		LIST II	
A.	Political	I.	Impact of carbon emissions
B.	Economic	II.	Lifestyle changes
C.	Social	III.	Government stability
D.	Ecological	IV.	Interest rates

Choose the correct answer from the options given below:

- 1. A-I B-II C-III D-IV
- 2. A-II B-I C-IV D-III
- 3. A-II B-I C-III D-IV
- 4. A-III B-IV C-II D-I

Options :

- 485584153009. 1
- 485584153010. 2
- 485584153011. 3
- 485584153012. 4

Question Number : 488 Question Id : 48558438253 Question Type : MCQ Option Shuffling : No Is Question Mandatory : No Calculator : None Response Time : N.A Think Time : N.A Minimum Instruction Time : 0

Correct Marks : 5 Wrong Marks : 1

Question Key Details :

Key	Value
Comprehension	MCQ

सूची I का सूची II से मिलान कीजिए

सूची I		सूची II	
A.	राजनैतिक	I.	कार्बन उत्सर्जन का प्रभाव
B.	आर्थिक	II.	जीवन शैली में बदलाव
C.	सामाजिक	III.	सरकार का स्थापित्व
D.	पारिस्थिकीय	IV.	ब्याज दर

निम्नलिखित विकल्पों में से सही उत्तर का चयन कीजिए :

1. A-I B-II C-III D-IV
2. A-II B-I C-IV D-III
3. A-II B-I C-III D-IV
4. A-III B-IV C-II D-I

Options :

485584153009. 1
485584153010. 2
485584153011. 3
485584153012. 4

Question Number : 489 Question Id : 48558438254 Question Type : MCQ Option Shuffling : No Is Question Mandatory : No Calculator : None Response Time : N.A Think Time : N.A Minimum Instruction Time : 0

Correct Marks : 5 Wrong Marks : 1

Question Key Details :

Key	Value
Comprehension	MCQ

Arrange the first five steps involved in idea and opportunity assessment in correct sequence.

- A. Competition
- B. Application and use
- C. Cost
- D. Product Identification
- E. Level of Operation

1. D,B,C,E,A
2. D,B,C,A,E
3. D,B,C,A,E
4. D,A,B,C,E

Options :

485584153013. 1
485584153014. 2
485584153015. 3
485584153016. 4

Question Number : 489 Question Id : 48558438254 Question Type : MCQ Option Shuffling : No Is Question Mandatory : No Calculator : None Response Time : N.A Think Time : N.A Minimum Instruction Time : 0

Correct Marks : 5 Wrong Marks : 1

Question Key Details :

Key	Value
Comprehension	MCQ

विचारों और अवसर निर्धारण में शामिल पहले पाँच चरण को सही क्रम में व्यवस्थित करें।

- A. प्रतियोगिता
- B. लागू करना और प्रयोग
- C. लागत
- D. उत्पाद पहचान
- E. प्रचालन का स्तर

- 1. D,B,C,E,A
- 2. D,B,C,A,E
- 3. D,B,C,A,E.
- 4. D,A,B,C,E

Options :

- 485584153013. 1
- 485584153014. 2
- 485584153015. 3
- 485584153016. 4

Question Number : 490 Question Id : 48558438255 Question Type : MCQ Option Shuffling : No Is Question Mandatory : No Calculator : None Response Time : N.A Think Time : N.A Minimum Instruction Time : 0

Correct Marks : 5 Wrong Marks : 1

Question Key Details :

Key	Value
Comprehension	MCQ

Which of the following way is not used by Entrepreneur to spot trends

- 1. Read trends
- 2. Talk trends
- 3. Walk trends
- 4. Think trends

Options :

- 485584153017. 1
- 485584153018. 2
- 485584153019. 3
- 485584153020. 4

Question Number : 490 Question Id : 48558438255 Question Type : MCQ Option Shuffling : No Is Question Mandatory : No Calculator : None Response Time : N.A Think Time : N.A Minimum Instruction Time : 0

Correct Marks : 5 Wrong Marks : 1

Question Key Details :

Key	Value
Comprehension	MCQ

निम्न में से किन प्रवृत्तियों का प्रयोग लक्ष्मी द्वारा नहीं किया जाता है

1. प्रवृत्तियों को समझना
2. प्रवृत्तियों पर बातचीत
3. प्रवृत्तियों का पालन
4. प्रवृत्तियों पर विचार

Options :

485584153017. 1
485584153018. 2
485584153019. 3
485584153020. 4

Question Number : 491 Question Id : 48558438256 Question Type : MCQ Option Shuffling : No Is Question Mandatory : No Calculator : None Response Time : N.A Think Time : N.A Minimum Instruction Time : 0

Correct Marks : 5 Wrong Marks : 1

Question Key Details :

Key	Value
Comprehension	MCQ

Information for environmental scanning can be collected from several sources. Identify the correct sources from the following:

- A. Records of companies
- B. Tapping of useful resources
- C. Formal studies conducted by strategic planners
- D. Sensitisation of entrepreneurs
- E. Verbal information from customers

1. A, B and C Only
2. A, C and E Only
3. A, C and D Only
4. A, D and E Only

Options :

485584153021. 1
485584153022. 2
485584153023. 3
485584153024. 4

Question Number : 491 Question Id : 48558438256 Question Type : MCQ Option Shuffling : No Is Question Mandatory : No Calculator : None Response Time : N.A Think Time : N.A Minimum Instruction Time : 0

Correct Marks : 5 Wrong Marks : 1

Question Key Details :

Key	Value
Comprehension	MCQ

वातावरणीय चित्रण की सूचना एकत्र करने के अनेक स्रोत हैं। निम्न में से सही स्रोत की पहचान कीजिए:

- A. कंपनी के अभिलेख
- B. उपयोगी संसाधनों का उपयोग
- C. रणनीतिक योजनाओं द्वारा संचालित औपचारिक अध्ययन
- D. उद्यमी की संवेदनशीलता
- E. उपभोक्ता से प्राप्त मौखिक जानकारी

- 1. केवल A, B और C
- 2. केवल A, C और E
- 3. केवल A, C और D
- 4. केवल A, D और E

Options :

- 485584153021. 1
- 485584153022. 2
- 485584153023. 3
- 485584153024. 4

Question Number : 492 Question Id : 48558438257 Question Type : MCQ Option Shuffling : No Is Question Mandatory : No Calculator : None Response Time : N.A Think Time : N.A Minimum Instruction Time : 0

Correct Marks : 5 Wrong Marks : 1

Question Key Details :

Key	Value
Comprehension	MCQ

Arrange the following Elements in innovation process in correct sequence

- A. Commercial application
- B. Implementation
- C. Analytical planning
- D. Organising Resources

- 1. C,D,A,B
- 2. C,D,B,A
- 3. C,B,D,A
- 4. C,B,A,D

Options :

- 485584153025. 1
- 485584153026. 2
- 485584153027. 3
- 485584153028. 4

Question Number : 492 Question Id : 48558438257 Question Type : MCQ Option Shuffling : No Is Question Mandatory : No Calculator : None Response Time : N.A Think Time : N.A Minimum Instruction Time : 0

Correct Marks : 5 Wrong Marks : 1

Question Key Details :

Key	Value
Comprehension	MCQ

नवाचार प्रक्रिया के निम्न तत्वों को सही क्रम में व्यवस्थित करें

- A. वाणिज्यिक अनुप्रयोग
- B. क्रियान्वयन
- C. विश्लेषणात्मक योजना
- D. संसाधन जुटाना

नीचे दिए गए विकल्पों में से सही उत्तर का चयन कीजिए :

- 1. C, D, A, B
- 2. C, D, B, A
- 3. C, B, D, A
- 4. C, B, A, D

Options :

- 485584153025. 1
- 485584153026. 2
- 485584153027. 3
- 485584153028. 4

Question Number : 493 Question Id : 48558438258 Question Type : MCQ Option Shuffling : No Is Question Mandatory : No Calculator : None Response Time : N.A Think Time : N.A Minimum Instruction Time : 0

Correct Marks : 5 Wrong Marks : 1

Question Key Details :

Key	Value
Comprehension	MCQ

Identify the correct sequence of steps in preparing the marketing plan

- A. Identify the target market
- B. Implementation & monitoring of the plan
- C. Conduct SWOT analysis
- D. Define marketing strategy
- E. Establish goals

- 1. B, D, C, E, A
- 2. A, B, C, D, E
- 3. E, D, C, B, A
- 4. A, C, E, D, B

Options :

- 485584153029. 1
- 485584153030. 2
- 485584153031. 3
- 485584153032. 4

Question Number : 493 Question Id : 48558438258 Question Type : MCQ Option Shuffling : No Is Question Mandatory : No Calculator : None Response Time : N.A Think Time : N.A Minimum Instruction Time : 0

Correct Marks : 5 Wrong Marks : 1

Question Key Details :

Key	Value
Comprehension	MCQ

विपणन योजना को बनाने के चरणों के सही क्रम को पहचानिए

- A. बाजार के लक्ष्यों की पहचान
- B. योजना का क्रियान्वयन एवं निगरानी
- C. SWOT विश्लेषण
- D. विपणन रणनीति को परिभाषित करना
- E. लक्ष्यों का निर्धारण करना

नीचे दिए गए विकल्पों में से सही उत्तर का चयन कीजिए :

- 1. B, D, C, E, A
- 2. A, B, C, D, E
- 3. E, D, C, B, A
- 4. A, C, E, D, B

Options :

- 485584153029. 1
- 485584153030. 2
- 485584153031. 3
- 485584153032. 4

Question Number : 494 Question Id : 48558438259 Question Type : MCQ Option Shuffling : No Is Question Mandatory : No Calculator : None Response Time : N.A Think Time : N.A Minimum Instruction Time : 0

Correct Marks : 5 Wrong Marks : 1

Question Key Details :

Key	Value
Comprehension	MCQ

Match List I with List II

LIST I		LIST II	
A.	Brand Name	I.	Part of brand that can be recognised
B.	Brand Mark	II.	Provides Legal Protection against its use by other firms
C.	Trade Mark	III.	Part of a brand which can be vocalized
D.	Tag line	IV.	end lines

Choose the correct answer from the options given below:

- 1. A- III, B-I, C-II, D-IV
- 2. A-III, B-II, C-I, D-IV
- 3. A-III, B-IV, C-I, D-II
- 4. A-II, B-IV, C-I, D-III

Options :

- 485584153033. 1
- 485584153034. 2
- 485584153035. 3
- 485584153036. 4

Question Number : 494 Question Id : 48558438259 Question Type : MCQ Option Shuffling : No Is Question Mandatory : No Calculator : None Response Time : N.A Think Time : N.A Minimum Instruction Time : 0

Correct Marks : 5 Wrong Marks : 1

Question Key Details :

Key	Value
Comprehension	MCQ

सूची I का सूची II से मिलान कीजिए

सूची I		सूची II	
A.	ब्रांड नाम	I.	ब्रांड का वह भाग जिससे पहचान जाए
B.	ब्रांड चिह्न	II.	किसी अन्य संस्था के द्वारा प्रयोग के विरुद्ध विधिक संरक्षण
C.	व्यापार चिह्न	III.	वह भाग जिसका उच्चारण किया जा सकता है
D.	टैग लाइन	IV.	अंत वाक्य

निम्नलिखित विकल्पों में से सही उत्तर का चयन कीजिए :

1. A- III, B-I, C-II, D-IV
2. A-III, B-II, C-I, D-IV
3. A-III, B-IV, C-I, D-II
4. A-II, B-IV, C-I, D-III

Options :

485584153033. 1
485584153034. 2
485584153035. 3
485584153036. 4

Question Number : 495 Question Id : 48558438260 Question Type : MCQ Option Shuffling : No Is Question Mandatory : No Calculator : None Response Time : N.A Think Time : N.A Minimum Instruction Time : 0

Correct Marks : 5 Wrong Marks : 1

Question Key Details :

Key	Value
Comprehension	MCQ

From the following statements identify that describes sales strategy

1. It refers to all the activities undertaken to make the product or service known to the user and trade
2. It consists of a plan that positions a company's brand or product to gain a competitive advantage
3. It is composed of several strategies for growth
4. It is a mixture of controllable marketing variables

Options :

485584153037. 1
485584153038. 2
485584153039. 3
485584153040. 4

Question Number : 495 Question Id : 48558438260 Question Type : MCQ Option Shuffling : No Is Question Mandatory : No Calculator : None Response Time : N.A Think Time : N.A Minimum Instruction Time : 0

Correct Marks : 5 Wrong Marks : 1

Question Key Details :

Key	Value
Comprehension	MCQ

निम्न कथनों में से कौन-सा कथन विक्रय रणनीति की पहचान करता है

1. सेवा और उत्पाद के बनाने में प्रयुक्त क्रिया से संबंध रखता है या स्थापित करता है, व्यवसाय व उपयोगकर्ता को जानना भी आवश्यक है
2. यह योजना का वह भाग है जो कंपनी के ब्रांड या उत्पाद को प्रतिस्पर्धात्मक लाभ प्रदान करता है
3. यह विकास की अनेक रणनीतियों से निर्मित है
4. यह नियंत्रण योग्य विपणन चर का मिश्रण है

Options :

485584153037. 1
485584153038. 2
485584153039. 3
485584153040. 4

Question Number : 496 Question Id : 48558438261 Question Type : MCQ Option Shuffling : No Is Question Mandatory : No Calculator : None Response Time : N.A Think Time : N.A Minimum Instruction Time : 0

Correct Marks : 5 Wrong Marks : 1

Question Key Details :

Key	Value
Comprehension	MCQ

Components of a Brand consist of:

- A. Trade Mark
- B. Labelling
- C. Brand name
- D. Brand Mark
- E. Promotion Strategy

1. C and B only
2. A and C only
3. A, D and E only
4. A, C and D only

Options :

485584153041. 1
485584153042. 2
485584153043. 3
485584153044. 4

Question Number : 496 Question Id : 48558438261 Question Type : MCQ Option Shuffling : No Is Question Mandatory : No Calculator : None Response Time : N.A Think Time : N.A Minimum Instruction Time : 0

Correct Marks : 5 Wrong Marks : 1

Question Key Details :

Key	Value
Comprehension	MCQ

ब्रांड के घटकों में शामिल है:

- A. व्यापार चिह्न
- B. लेबलिंग
- C. ब्रांड नाम
- D. ब्रांड चिह्न
- E. संप्रवर्तन रणनीति

नीचे दिए गए विकल्पों में से सही उत्तर का चयन कीजिए :

1. केवल C और B
2. केवल A और C
3. केवल A, D और E
4. केवल A, C और D

Options :

- 485584153041. 1
- 485584153042. 2
- 485584153043. 3
- 485584153044. 4

Question Number : 497 Question Id : 48558438262 Question Type : MCQ Option Shuffling : No Is Question Mandatory : No Calculator : None Response Time : N.A Think Time : N.A Minimum Instruction Time : 0

Correct Marks : 5 Wrong Marks : 1

Question Key Details :

Key	Value
Comprehension	MCQ

Arrange the following for two levels channel of Distribution:

- A. Retailer
- B. Consumer
- C. Producer
- D. Wholesaler
- E. Agent

1. C B A D
2. C D A B
3. C D B A
4. C A E B D

Options :

- 485584153045. 1
- 485584153046. 2
- 485584153047. 3
- 485584153048. 4

Question Number : 497 Question Id : 48558438262 Question Type : MCQ Option Shuffling : No Is Question Mandatory : No Calculator : None Response Time : N.A Think Time : N.A Minimum Instruction Time : 0

Correct Marks : 5 Wrong Marks : 1

Question Key Details :

Key	Value
Comprehension	MCQ

वितरण की द्विस्तरीय श्रृंखला के रूप में निम्न को व्यवस्थित करें

- A. फूटकर व्यापारी
- B. उपभोक्ता
- C. उत्पादक
- D. थोक विक्रेता
- E. अभिकर्ता

नीचे दिए गए विकल्पों में से सही उत्तर का चयन कीजिए :

- 1. C B A D
- 2. C D A B
- 3. C D B A
- 4. C A E B D

Options :

- 485584153045. 1
- 485584153046. 2
- 485584153047. 3
- 485584153048. 4

Question Number : 498 Question Id : 48558438263 Question Type : MCQ Option Shuffling : No Is Question Mandatory : No Calculator : None Response Time : N.A Think Time : N.A Minimum Instruction Time : 0

Correct Marks : 5 Wrong Marks : 1

Question Key Details :

Key	Value
Comprehension	MCQ

Identify the different methods used for Below the line method to promote company's product.

- A. Sponsorship
- B. Cinema advertising
- C. Online banner advertisements
- D. Public Relations
- E. Direct marketing

Identify the various methods that can be used by company to promote its product under its Below the line approach.

- 1. A, B and C Only
- 2. A, D and E Only
- 3. C, D and E Only
- 4. B, C and D Only

Options :

- 485584153049. 1
- 485584153050. 2
- 485584153051. 3
- 485584153052. 4

Question Number : 498 Question Id : 48558438263 Question Type : MCQ Option Shuffling : No Is Question Mandatory : No Calculator : None Response Time : N.A Think Time : N.A Minimum Instruction Time : 0

Correct Marks : 5 Wrong Marks : 1

Question Key Details :

Key	Value
Comprehension	MCQ

उन विधियों को पहचानिए जिनका प्रयोग कंपनी उत्पाद को बढ़ावा देने के लिए करती है जबकि शैली उत्पाद रेखा दृष्टिकोण से निम्न है।

- A. प्रायोजित
 - B. सिनेमा विज्ञापन
 - C. ऑनलाइन बैनर
 - D. जनसम्पर्क
 - E. प्रत्यक्ष विपणन
1. केवल A, B और C
 2. केवल A, D और E
 3. केवल C, D और E
 4. केवल B, C और D

Options :

- 485584153049. 1
- 485584153050. 2
- 485584153051. 3
- 485584153052. 4

Question Number : 499 Question Id : 48558438264 Question Type : MCQ Option Shuffling : No Is Question Mandatory : No Calculator : None Response Time : N.A Think Time : N.A Minimum Instruction Time : 0

Correct Marks : 5 Wrong Marks : 1

Question Key Details :

Key	Value
Comprehension	MCQ

Identify which statement is correct as per generic requirement of a product

1. Generic requirement is that part of brand which can be vocalized
2. Generic requirement provides legal protection to the brand
3. Generic requirement is the core benefit, a product offers to the customer
4. Generic requirement is that part of brand which can be recognized but cannot be vocalized

Options :

- 485584153053. 1
- 485584153054. 2
- 485584153055. 3
- 485584153056. 4

Question Number : 499 Question Id : 48558438264 Question Type : MCQ Option Shuffling : No Is Question Mandatory : No Calculator : None Response Time : N.A Think Time : N.A Minimum Instruction Time : 0

Correct Marks : 5 Wrong Marks : 1

Question Key Details :

Key	Value
Comprehension	MCQ

उस कथन को पहचानिए जो उत्पाद की सामान्य आवश्यकताओं के अनुसार सही है।

1. सामान्य आवश्यकताएँ ब्रांड का वो भाग है जिससे वह मुखरित होता है
2. सामान्य आवश्यकताएँ ब्रांड को वैधानिक संरक्षण प्रदान करती है
3. सामान्य आवश्यकता का मुख्य लाभ है उत्पाद को उपभोक्ता के समक्ष प्रस्तुत करना।
4. सामान्य आवश्यकताएँ ब्रांड का वह हिस्सा है जो पहचाना जा सकता है किन्तु मुखरित नहीं हो सकता

Options :

- 485584153053. 1
- 485584153054. 2
- 485584153055. 3
- 485584153056. 4

Question Number : 500 Question Id : 48558438265 Question Type : MCQ Option Shuffling : No Is Question Mandatory : No Calculator : None Response Time : N.A Think Time : N.A Minimum Instruction Time : 0

Correct Marks : 5 Wrong Marks : 1

Question Key Details :

Key	Value
Comprehension	MCQ

Rohan is manufacturing cold drinks. He sells three sizes. 100 ml for ₹8, 1 liter for ₹20 and 2.25 liter for ₹80.

Identify the price strategy used by Rohan.

1. Cost-plus pricing
2. Penetration pricing
3. Creaming pricing
4. Variable pricing

Options :

- 485584153057. 1
- 485584153058. 2
- 485584153059. 3
- 485584153060. 4

Question Number : 500 Question Id : 48558438265 Question Type : MCQ Option Shuffling : No Is Question Mandatory : No Calculator : None Response Time : N.A Think Time : N.A Minimum Instruction Time : 0

Correct Marks : 5 Wrong Marks : 1

Question Key Details :

Key	Value
Comprehension	MCQ

रोहन कोल्ड ड्रिंक (शीतल पेय) का उत्पादन करता है। वह तीन आकार 200 मि. ली. ₹ 8 में, 1 ली. ₹ 20 में, और 2.25 ली. ₹ 80 में विक्रय करता है। रोहन द्वारा प्रयोग की गई कीमत रणनीति को पहचानिये

1. अधि-लागत मूल्यन
2. भेदनकारी मूल्यन
3. क्रिमिंग मूल्यन
4. चर मूल्यन

Options :

- 485584153057. 1

485584153058.2
485584153059.3
485584153060.4

Question Number : 501 Question Id : 48558438266 Question Type : MCQ Option Shuffling : No Is Question Mandatory : No Calculator : None Response Time : N.A Think Time : N.A Minimum Instruction Time : 0

Correct Marks : 5 Wrong Marks : 1

Question Key Details :

Key	Value
Comprehension	MCQ

Companies appoint..... to contact prospective buyers and create awareness about the company's product.

1. Agent
2. Salesperson
3. Retailers
4. Wholesaler

Options :

485584153061.1
485584153062.2
485584153063.3
485584153064.4

Question Number : 501 Question Id : 48558438266 Question Type : MCQ Option Shuffling : No Is Question Mandatory : No Calculator : None Response Time : N.A Think Time : N.A Minimum Instruction Time : 0

Correct Marks : 5 Wrong Marks : 1

Question Key Details :

Key	Value
Comprehension	MCQ

कम्पनी ने..... को भावी खरीदार और कम्पनी के उत्पादन के प्रति जागरूकता के लिए नियुक्त किया।

1. अभिकर्ता
2. विक्रय कर्ता
3. फूटकर
4. थोक विक्रेता

Options :

485584153061.1
485584153062.2
485584153063.3
485584153064.4

Question Number : 502 Question Id : 48558438267 Question Type : MCQ Option Shuffling : No Is Question Mandatory : No Calculator : None Response Time : N.A Think Time : N.A Minimum Instruction Time : 0

Correct Marks : 5 Wrong Marks : 1

Question Key Details :

Key	Value
Comprehension	MCQ

The correct example of Above the Line :

1. Sponsorship
2. Public Relations
3. Print
4. Direct Marketing

Options :

- 485584153065. 1
- 485584153066. 2
- 485584153067. 3
- 485584153068. 4

Question Number : 502 Question Id : 48558438267 Question Type : MCQ Option Shuffling : No Is Question Mandatory : No Calculator : None Response Time : N.A Think Time : N.A Minimum Instruction Time : 0

Correct Marks : 5 Wrong Marks : 1

Question Key Details :

Key	Value
Comprehension	MCQ

रेखा से ऊपर का सही उदाहरण है।

1. प्रायोजित
2. जनसम्पर्क
3. प्रिन्ट
4. प्रत्यक्ष विपणन

Options :

- 485584153065. 1
- 485584153066. 2
- 485584153067. 3
- 485584153068. 4

Question Number : 503 Question Id : 48558438268 Question Type : MCQ Option Shuffling : No Is Question Mandatory : No Calculator : None Response Time : N.A Think Time : N.A Minimum Instruction Time : 0

Correct Marks : 5 Wrong Marks : 1

Question Key Details :

Key	Value
Comprehension	MCQ

Identify the type of brand which is also referred as Umbrella Branding

1. Individual Brand Names
2. Family Brand Names
3. Corporate Names
4. Alpha -numeric names

Options :

- 485584153069. 1
- 485584153070. 2
- 485584153071. 3
- 485584153072. 4

Question Number : 503 Question Id : 48558438268 Question Type : MCQ Option Shuffling : No Is Question Mandatory : No Calculator : None
Response Time : N.A Think Time : N.A Minimum Instruction Time : 0

Correct Marks : 5 Wrong Marks : 1

Question Key Details :

Key	Value
Comprehension	MCQ

ब्रांड के उस प्रकार को पहचानिए जो अम्बरेला ब्रांडिंग से संबंधित है।

1. व्यक्तिगत (एकल) ब्रांड नाम
2. पारिवारिक ब्रांड नाम
3. निगम नाम
4. वर्ण-अंकीय नाम

Options :

- 485584153069. 1
- 485584153070. 2
- 485584153071. 3
- 485584153072. 4

Question Number : 504 Question Id : 48558438269 Question Type : MCQ Option Shuffling : No Is Question Mandatory : No Calculator : None
Response Time : N.A Think Time : N.A Minimum Instruction Time : 0

Correct Marks : 5 Wrong Marks : 1

Question Key Details :

Key	Value
Comprehension	MCQ

Identify a corporate action in which a company buys most of the target company's ownership stakes in order to assume control of the target firm.

1. Franchising
2. Acquisition
3. Merger
4. Market Extension merger

Options :

- 485584153073. 1
- 485584153074. 2
- 485584153075. 3
- 485584153076. 4

Question Number : 504 Question Id : 48558438269 Question Type : MCQ Option Shuffling : No Is Question Mandatory : No Calculator : None
Response Time : N.A Think Time : N.A Minimum Instruction Time : 0

Correct Marks : 5 Wrong Marks : 1

Question Key Details :

Key	Value
Comprehension	MCQ

उस निगमित कार्यवाही की पहचान करे जिसको अन्तर्गत कम्पनी लक्षित कम्पनी के अधिकांश स्वामित्व की हिस्सेदारी पर नियंत्रण कर लेती है।

1. फ्रेंचाइजिंग
2. अधिग्रहण
3. विलय
4. बाजार विस्तार विलय

Options :

485584153073. 1
485584153074. 2
485584153075. 3
485584153076. 4

Question Number : 505 Question Id : 48558438270 Question Type : MCQ Option Shuffling : No Is Question Mandatory : No Calculator : None Response Time : N.A Think Time : N.A Minimum Instruction Time : 0

Correct Marks : 5 Wrong Marks : 1

Question Key Details :

Key	Value
Comprehension	MCQ

Identify the type of merger in which the two companies are producing different goods and services for one specific finished product.

1. Horizontal merger
2. Vertical merger
3. Product Extension mergers
4. Market Extension mergers

Options :

485584153077. 1
485584153078. 2
485584153079. 3
485584153080. 4

Question Number : 505 Question Id : 48558438270 Question Type : MCQ Option Shuffling : No Is Question Mandatory : No Calculator : None Response Time : N.A Think Time : N.A Minimum Instruction Time : 0

Correct Marks : 5 Wrong Marks : 1

Question Key Details :

Key	Value
Comprehension	MCQ

विलय के उस रूप को पहचानिए जहाँ दो कम्पनी एक विशेष अंतिम उत्पाद के लिए अलग-अलग वस्तु व सेवा का उत्पादन करती है।

1. क्षेत्रीय विलय
2. ऊर्ध्वाधर विलय
3. उत्पाद विस्तारण विलय
4. बाजार विस्तारण विलय

Options :

485584153077. 1

485584153078. 2
485584153079. 3
485584153080. 4

Question Number : 506 Question Id : 48558438271 Question Type : MCQ Option Shuffling : No Is Question Mandatory : No Calculator : None
Response Time : N.A Think Time : N.A Minimum Instruction Time : 0

Correct Marks : 5 Wrong Marks : 1

Question Key Details :

Key	Value
Comprehension	MCQ

Burger lal is a fast growing fast food outlet. Seeing to the popularity of Burger lal, Rajesh approached the management of Burger lal to take its franchise. The management of Burger lal prepares a document that outlines the type of relationship burger will be entering with Rajesh. Identify the ingredient of a franchise agreement discussed above.

1. Operation Manual
2. Proprietary statement
3. Contract Explanation
4. Ongoing site maintenance

Options :

485584153081. 1
485584153082. 2
485584153083. 3
485584153084. 4

Question Number : 506 Question Id : 48558438271 Question Type : MCQ Option Shuffling : No Is Question Mandatory : No Calculator : None
Response Time : N.A Think Time : N.A Minimum Instruction Time : 0

Correct Marks : 5 Wrong Marks : 1

Question Key Details :

Key	Value
Comprehension	MCQ

बर्गर लाल तेजी से बढ़ने वाली फास्ट फूड विक्रय स्थान है। बर्गर लाल की प्रसिद्धि को देखते हुए, राजेश प्रबंध को सलाह देता है कि उसकी फ्रेंचाइजी ली जाए। बर्गर लाल का प्रबंध ने राजेश के प्रवेश से संबंधित नियमों वाले प्रपत्र तैयार किए। फ्रेंचाइजी संघटक के उस रूप को पहचानिए जिसका ऊपर वर्णन किया गया

1. क्रियात्मक अवयव (मैनुअल)
2. स्वामित्व कथन
3. अनुबंध व्याख्या
4. चालू साइट का रखरखाव

Options :

485584153081. 1
485584153082. 2
485584153083. 3
485584153084. 4

Question Number : 507 Question Id : 48558438272 Question Type : MCQ Option Shuffling : No Is Question Mandatory : No Calculator : None
Response Time : N.A Think Time : N.A Minimum Instruction Time : 0

Correct Marks : 5 Wrong Marks : 1

Question Key Details :

Key	Value
Comprehension	MCQ

Identify the type of acquisition between companies when the entire process is done by force

1. Friendly acquisition
2. Reverse acquisition
3. Back flip acquisition
4. Hostile acquisition

Options :

- 485584153085. 1
- 485584153086. 2
- 485584153087. 3
- 485584153088. 4

Question Number : 507 Question Id : 48558438272 Question Type : MCQ Option Shuffling : No Is Question Mandatory : No Calculator : None Response Time : N.A Think Time : N.A Minimum Instruction Time : 0

Correct Marks : 5 Wrong Marks : 1

Question Key Details :

Key	Value
Comprehension	MCQ

कंपनियों के मध्य अधिग्रहण के उस रूप को पहचानिए जिससे बलपूर्वक सारी क्रियाएँ की जाती है।

1. मित्रवत् अधिग्रहण
2. विपरीत अधिग्रहण
3. बैक फिलीप अधिग्रहण
4. शत्रुतापूर्ण अधिग्रहण

Options :

- 485584153085. 1
- 485584153086. 2
- 485584153087. 3
- 485584153088. 4

Question Number : 508 Question Id : 48558438273 Question Type : MCQ Option Shuffling : No Is Question Mandatory : No Calculator : None Response Time : N.A Think Time : N.A Minimum Instruction Time : 0

Correct Marks : 5 Wrong Marks : 1

Question Key Details :

Key	Value
Comprehension	MCQ

Which of the following is not an advantage of Merger and Acquisition

1. Acquiring new technology
2. Unrealistic Price paid for target
3. Improved profitability
4. Acquiring competency

Options :

- 485584153089. 1
- 485584153090. 2
- 485584153091. 3
- 485584153092. 4

Question Number : 508 Question Id : 48558438273 Question Type : MCQ Option Shuffling : No Is Question Mandatory : No Calculator : None
Response Time : N.A Think Time : N.A Minimum Instruction Time : 0

Correct Marks : 5 Wrong Marks : 1

Question Key Details :

Key	Value
Comprehension	MCQ

निम्नलिखित में कौन-सा कथन विलय और अधिग्रहण का लाभ नहीं है।

1. नई तकनीक का अधिग्रहण
2. लक्षित को अवास्तविक भुगतान
3. लाभदायकता में सुधार
4. अर्जित सक्षमता

Options :

485584153089. 1

485584153090. 2

485584153091. 3

485584153092. 4

Question Number : 509 Question Id : 48558438274 Question Type : MCQ Option Shuffling : No Is Question Mandatory : No Calculator : None
Response Time : N.A Think Time : N.A Minimum Instruction Time : 0

Correct Marks : 5 Wrong Marks : 1

Question Key Details :

Key	Value
Comprehension	MCQ

The main ingredients of franchise agreement are:

- A. Contract Explanation
- B. Operation Manual
- C. Proprietary Statements
- D. Management Expertise
- E. Ongoing site Maintenance

1. A, B, and D only
2. A, B, C and E only
3. A, C, D and E only
4. A, B, C and D only

Options :

485584153093. 1

485584153094. 2

485584153095. 3

485584153096. 4

Question Number : 509 Question Id : 48558438274 Question Type : MCQ Option Shuffling : No Is Question Mandatory : No Calculator : None
Response Time : N.A Think Time : N.A Minimum Instruction Time : 0

Correct Marks : 5 Wrong Marks : 1

Question Key Details :

Key	Value
Comprehension	MCQ

फ्रेंचाइज समझौता के मुख्य अवयव है :

- A. अनुबंध व्याख्या
- B. संचालन अव्यव
- C. स्वामित्व कथन
- D. प्रबंध विशेषज्ञ
- E. चातू साइट का रखरखाव

नीचे दिए गए विकल्पों में से सही उत्तर का चयन कीजिए :

1. केवल A, B और D
2. केवल A, B, C और E
3. केवल A, C, D और E
4. केवल A, B, C और D

Options :

- 485584153093. 1
- 485584153094. 2
- 485584153095. 3
- 485584153096. 4

Question Number : 510 Question Id : 48558438275 Question Type : MCQ Option Shuffling : No Is Question Mandatory : No Calculator : None Response Time : N.A Think Time : N.A Minimum Instruction Time : 0

Correct Marks : 5 Wrong Marks : 1

Question Key Details :

Key	Value
Comprehension	MCQ

Match List I with List II

LIST I		LIST II	
A.	Price Mix	I.	The path or route along which goods move from producer to consumer
B.	Place Mix	II.	The value that is put on product
C.	Product Mix	III.	This refers to the item actually being sold
D.	Promotion Mix	IV.	Refers to activities undertaken to make the product known to users and trade

Choose the correct answer from the options given below:

1. A-I B-II C-III D-IV
2. A-IV B-I C-III D-II
3. A-II B-I C-III D-IV
4. A-II B-III C-IV D-I

Options :

- 485584153097. 1
- 485584153098. 2
- 485584153099. 3
- 485584153100. 4

Question Number : 510 Question Id : 48558438275 Question Type : MCQ Option Shuffling : No Is Question Mandatory : No Calculator : None Response Time : N.A Think Time : N.A Minimum Instruction Time : 0

Correct Marks : 5 Wrong Marks : 1

Question Key Details :

Key	Value
-----	-------

सूची I का सूची II से मिलान कीजिए

सूची I		सूची II	
A.	मूल्य मिश्र	I.	एक पथ जिसमें लक्ष्यों का बढ़ना (उत्पादक से उपभोक्ता की ओर पाया जाता है)
B.	स्थान मिश्र	II.	उत्पाद पर लिखा मूल्य
C.	उत्पाद मिश्र	III.	यह उस वस्तु से संबंधित है जिसे वास्तव में बेचा जा रहा है
D.	संवर्धन मिश्र	IV.	यह उत्पाद को उपयोगकर्ता व व्यापार से परिचित कराने के संदर्भ में किया है।

निम्नलिखित विकल्पों में से सही उत्तर का चयन कीजिए :

1. A-I B-II C-III D-IV
2. A-IV B-I C-III D-II
3. A-II B-I C-III D-IV
4. A-II B-III C-IV D-I

Options :

485584153097. 1
485584153098. 2
485584153099. 3
485584153100. 4

Question Number : 511 Question Id : 48558438276 Question Type : MCQ Option Shuffling : No Is Question Mandatory : No Calculator : None Response Time : N.A Think Time : N.A Minimum Instruction Time : 0

Correct Marks : 5 Wrong Marks : 1

Question Key Details :

Key	Value
Comprehension	MCQ

Match List I with List II

LIST I		LIST II	
A.	Product Franchise	I.	Right to manufacture and sell
B.	Manufacturing Franchise	II.	How the retailer distributes their product
C.	Business Franchise	III.	Operating the business
D.	Business Format Franchise	IV.	Purchase and distributes the products of only one company

Choose the correct answer from the options given below:

1. A-II B-I C-IV D-III
2. A-II B-IV C-I D-III
3. A-II B-III C-IV D-I
4. A-III B-II C-I D-IV

Options :

485584153101. 1
485584153102. 2
485584153103. 3
485584153104. 4

Question Number : 511 Question Id : 48558438276 Question Type : MCQ Option Shuffling : No Is Question Mandatory : No Calculator : None Response Time : N.A Think Time : N.A Minimum Instruction Time : 0

Correct Marks : 5 Wrong Marks : 1

Question Key Details :

Key	Value
Comprehension	MCQ

सूची I का सूची II से मिलान कीजिए

सूची I		सूची II	
A.	उत्पाद फ्रेन्चाइजी	I.	उत्पादन और विक्रय अधिकार
B.	उत्पादन फ्रेन्चाइजी	II.	कैसे फूटकर किराता अपने उत्पादों वितरण करे।
C.	व्यवसाय फ्रेन्चाइजी	III.	व्यवसाय संचालन
D.	व्यवसाय प्रारूपीत फ्रेन्चाइजी	IV.	केवल एक कंपनी, माल का क्रय व वितरण करे

निम्नलिखित विकल्पों में से सही उत्तर का चयन कीजिए :

1. A-II B-I C-IV D-III
2. A-II B-IV C-I D-III
3. A-II B-III C-IV D-I
4. A-III B-II C-I D-IV

Options :

485584153101. 1
485584153102. 2
485584153103. 3
485584153104. 4

Question Number : 512 Question Id : 48558438277 Question Type : MCQ Option Shuffling : No Is Question Mandatory : No Calculator : None Response Time : N.A Think Time : N.A Minimum Instruction Time : 0

Correct Marks : 5 Wrong Marks : 1

Question Key Details :

Key	Value
Comprehension	MCQ

Which of the following information is needed to find Economic order Quantity (EOQ)

- A. Annual demand for the item
- B. Ordering Cost
- C. Inventory Carrying Cost
- D. Profit margin

1. A, B and C Only
2. A, B and D Only
3. A, B, C and D Only
4. A, C and D Only

Options :

485584153105. 1
485584153106. 2
485584153107. 3
485584153108. 4

Question Number : 512 Question Id : 48558438277 Question Type : MCQ Option Shuffling : No Is Question Mandatory : No Calculator : None Response Time : N.A Think Time : N.A Minimum Instruction Time : 0

Correct Marks : 5 Wrong Marks : 1

Question Key Details :

Key	Value
-----	-------

आर्थिक आदेश मात्र को ज्ञात करने के लिए निम्न में किस सूचना की आवश्यकता होगी।

- A. मर्दों की वार्षिक माँग
- B. आदेशन लागत
- C. माल-सूची अग्रेषण
- D. लाभ अंतर

नीचे दिए गए विकल्पों में से सही उत्तर का चयन कीजिए :

- 1. केवल A, B और C
- 2. केवल A, B और D
- 3. केवल A, B, C और D
- 4. केवल A, C और D

Options :

- 485584153105. 1
- 485584153106. 2
- 485584153107. 3
- 485584153108. 4

Question Number : 513 Question Id : 48558438278 Question Type : MCQ Option Shuffling : No Is Question Mandatory : No Calculator : None Response Time : N.A Think Time : N.A Minimum Instruction Time : 0

Correct Marks : 5 Wrong Marks : 1

Question Key Details :

Key	Value
Comprehension	MCQ

Funds required for purchasing current asset is a example of

- 1. Ploughing back of profits
- 2. Fixed capital
- 3. Working capital
- 4. Lease financing

Options :

- 485584153109. 1
- 485584153110. 2
- 485584153111. 3
- 485584153112. 4

Question Number : 513 Question Id : 48558438278 Question Type : MCQ Option Shuffling : No Is Question Mandatory : No Calculator : None Response Time : N.A Think Time : N.A Minimum Instruction Time : 0

Correct Marks : 5 Wrong Marks : 1

Question Key Details :

Key	Value
Comprehension	MCQ

चालू संपत्तियों के खरीदने के लिए फंड की आवश्यकता उदाहरण है

1. लाभ पुर्न: निवेश
2. स्थायी पूंजी
3. चालू पूंजी
4. पट्टे पर वित्तियन

Options :

485584153109. 1
485584153110. 2
485584153111. 3
485584153112. 4

Question Number : 514 Question Id : 48558438279 Question Type : MCQ Option Shuffling : No Is Question Mandatory : No Calculator : None Response Time : N.A Think Time : N.A Minimum Instruction Time : 0

Correct Marks : 5 Wrong Marks : 1

Question Key Details :

Key	Value
Comprehension	MCQ

Riya started a beauty parlour investing ₹10,00,000. She invested ₹4,00,000 of her own and took a loan of ₹6,00,000 @ 10%pa. Her profit after interest, tax, depreciation and amortisation is ₹20,000. Calculate her return as equity.

1. 5%
2. 20%
3. 10%
4. 50%

Options :

485584153113. 1
485584153114. 2
485584153115. 3
485584153116. 4

Question Number : 514 Question Id : 48558438279 Question Type : MCQ Option Shuffling : No Is Question Mandatory : No Calculator : None Response Time : N.A Think Time : N.A Minimum Instruction Time : 0

Correct Marks : 5 Wrong Marks : 1

Question Key Details :

Key	Value
Comprehension	MCQ

रिया ने ब्यूटी पार्लर शुरू किया, ₹10,00,000 का निवेश किया, उसने ₹ 4,00,000 अपने, ₹ 6,00,000 का ऋण 10% वार्षिक दर से लिया। उसका लाभ ब्याज, कर और परिशोधन के पश्चात ₹ 20,000 है। उसकी समता प्रत्याय की गणना करें।

1. 5%
2. 20%
3. 10%
4. 50%

Options :

485584153113. 1
485584153114. 2
485584153115. 3
485584153116. 4

Question Number : 515 Question Id : 48558438280 Question Type : MCQ Option Shuffling : No Is Question Mandatory : No Calculator : None Response Time : N.A Think Time : N.A Minimum Instruction Time : 0

Correct Marks : 5 Wrong Marks : 1

Question Key Details :

Key	Value
Comprehension	MCQ

Bharat spends ₹4,00,000 to start a shop and earns net profit of ₹80,000 in one year. What will be Bharat's return on investment ?

1. 40%
2. 25%
3. 15%
4. 20%

Options :

485584153117. 1
485584153118. 2
485584153119. 3
485584153120. 4

Question Number : 515 Question Id : 48558438280 Question Type : MCQ Option Shuffling : No Is Question Mandatory : No Calculator : None Response Time : N.A Think Time : N.A Minimum Instruction Time : 0

Correct Marks : 5 Wrong Marks : 1

Question Key Details :

Key	Value
Comprehension	MCQ

भरत ने ₹ 4,00,000 में दुकान शुरू की और एक वर्ष में ₹ 80,000 का लाभ कमाया। भरत के निवेश पर प्रत्याय क्या होगा

1. 40%
2. 25%
3. 15%
4. 20%

Options :

485584153117. 1
485584153118. 2
485584153119. 3
485584153120. 4

Question Number : 516 Question Id : 48558438281 Question Type : MCQ Option Shuffling : No Is Question Mandatory : No Calculator : None Response Time : N.A Think Time : N.A Minimum Instruction Time : 0

Correct Marks : 5 Wrong Marks : 1

Question Key Details :

Key	Value
Comprehension	MCQ

Gross working Capital means

1. Capital which is invested
2. Current Assets minus Current Liabilities
3. Total of all Current Liabilities
4. Total of all Current Assets

Options :

- 485584153121. 1
- 485584153122. 2
- 485584153123. 3
- 485584153124. 4

Question Number : 516 Question Id : 48558438281 Question Type : MCQ Option Shuffling : No Is Question Mandatory : No Calculator : None
Response Time : N.A Think Time : N.A Minimum Instruction Time : 0

Correct Marks : 5 Wrong Marks : 1

Question Key Details :

Key	Value
Comprehension	MCQ

सकल कार्यशील पूंजी का अर्थ है

1. निवेशित पूंजी
2. चालू संपत्ति - चालू दायित्व
3. चालू ----- का योग
4. चालू संपत्तियों का योग

Options :

- 485584153121. 1
- 485584153122. 2
- 485584153123. 3
- 485584153124. 4

Question Number : 517 Question Id : 48558438282 Question Type : MCQ Option Shuffling : No Is Question Mandatory : No Calculator : None
Response Time : N.A Think Time : N.A Minimum Instruction Time : 0

Correct Marks : 5 Wrong Marks : 1

Question Key Details :

Key	Value
Comprehension	MCQ

_____ is the net income from a business divided by the total money invested in the venture multiplied by hundred.

1. Return of Equity
2. Return of Investment
3. Earning Per Share
4. Dividend per share

Options :

- 485584153125. 1
- 485584153126. 2
- 485584153127. 3
- 485584153128. 4

Question Number : 517 Question Id : 48558438282 Question Type : MCQ Option Shuffling : No Is Question Mandatory : No Calculator : None
Response Time : N.A Think Time : N.A Minimum Instruction Time : 0

Correct Marks : 5 Wrong Marks : 1

Question Key Details :

Key	Value
Comprehension	MCQ

व्यवसाय से प्राप्त शुद्ध आय को व्यवसाय में निवेशित पूंजी से भाग देने पर और 100 से गुणा करने पर प्राप्त होता है।

1. समता पर प्रत्याय
2. निवेश पर प्रत्याय
3. प्रति शेयर आय
4. प्रति अंश लाभान्श

Options :

485584153125. 1
485584153126. 2
485584153127. 3
485584153128. 4

Question Number : 518 Question Id : 48558438283 Question Type : MCQ Option Shuffling : No Is Question Mandatory : No Calculator : None
Response Time : N.A Think Time : N.A Minimum Instruction Time : 0

Correct Marks : 5 Wrong Marks : 1

Question Key Details :

Key	Value
Comprehension	MCQ

Which of the following is the formula for calculating weighted average contribution margin.

1. Contribution X Total Units
2. Total contribution/Total Fixed cost
3. Total contribution/Total Units
4. Total contribution/Total sales

Options :

485584153129. 1
485584153130. 2
485584153131. 3
485584153132. 4

Question Number : 518 Question Id : 48558438283 Question Type : MCQ Option Shuffling : No Is Question Mandatory : No Calculator : None
Response Time : N.A Think Time : N.A Minimum Instruction Time : 0

Correct Marks : 5 Wrong Marks : 1

Question Key Details :

Key	Value
Comprehension	MCQ

निम्न में से कौन-सा सूत्र औसत भारित अंशदान लाभ की गणना के लिए सही है।

1. अंशदान \times कुल इकाई
2. कुल अंशदान/ कुल स्थायी लागत
3. कुल अंशदान/ कुल इकाई
4. कुल अंशदान/ कुल विक्रय

Options :

485584153129. 1
485584153130. 2
485584153131. 3
485584153132. 4

Question Number : 519 Question Id : 48558438284 Question Type : MCQ Option Shuffling : No Is Question Mandatory : No Calculator : None Response Time : N.A Think Time : N.A Minimum Instruction Time : 0

Correct Marks : 5 Wrong Marks : 1

Question Key Details :

Key	Value
Comprehension	MCQ

If selling price of a pen is ₹80. The variable cost is 40%. Then, calculate contribution margin per unit

1. ₹ 32
2. ₹ 23
3. ₹ 48
4. ₹36

Options :

485584153133. 1
485584153134. 2
485584153135. 3
485584153136. 4

Question Number : 519 Question Id : 48558438284 Question Type : MCQ Option Shuffling : No Is Question Mandatory : No Calculator : None Response Time : N.A Think Time : N.A Minimum Instruction Time : 0

Correct Marks : 5 Wrong Marks : 1

Question Key Details :

Key	Value
Comprehension	MCQ

यदि एक पेन की कीमत ₹ 80 है। परिवर्तनीय लागत 40% है तो प्रति इकाई अंशदान लाभ की गणना करें

1. ₹ 32
2. ₹ 23
3. ₹ 48
4. ₹36

Options :

485584153133. 1
485584153134. 2
485584153135. 3
485584153136. 4

Question Number : 520 Question Id : 48558438285 Question Type : MCQ Option Shuffling : No Is Question Mandatory : No Calculator : None
Response Time : N.A Think Time : N.A Minimum Instruction Time : 0

Correct Marks : 5 Wrong Marks : 1

Question Key Details :

Key	Value
Comprehension	MCQ

A Business is said to have reached the stage by **Break Even Point** when:

1. Net Revenue = Net Expenses
2. Gross Revenue = Sales revenue
3. Selling price per unit = Fixed cost per unit
4. Total Revenue = Total Expense

Options :

485584153137. 1
485584153138. 2
485584153139. 3
485584153140. 4

Question Number : 520 Question Id : 48558438285 Question Type : MCQ Option Shuffling : No Is Question Mandatory : No Calculator : None
Response Time : N.A Think Time : N.A Minimum Instruction Time : 0

Correct Marks : 5 Wrong Marks : 1

Question Key Details :

Key	Value
Comprehension	MCQ

किसी व्यवसाय को सम-विच्छेद बिन्दु पर तब कहा जाएगा जब

1. शुद्ध आगम = शुद्ध व्यय
2. सकल आगम = विक्रय आगम
3. प्रति इकाई विक्रय मूल्य = प्रति इकाई स्थायी लागत
4. कुल आगम = कुल व्यय

Options :

485584153137. 1
485584153138. 2
485584153139. 3
485584153140. 4

Question Number : 521 Question Id : 48558438286 Question Type : MCQ Option Shuffling : No Is Question Mandatory : No Calculator : None
Response Time : N.A Think Time : N.A Minimum Instruction Time : 0

Correct Marks : 5 Wrong Marks : 1

Question Key Details :

Key	Value
Comprehension	MCQ

Which of the Following is not the method used for resource mobilisation through primary market-

1. Public Issue
2. Private Placement of shares
3. Trade of securities in stock exchange
4. offer to the employees

Options :

- 485584153141. 1
- 485584153142. 2
- 485584153143. 3
- 485584153144. 4

Question Number : 521 Question Id : 48558438286 Question Type : MCQ Option Shuffling : No Is Question Mandatory : No Calculator : None Response Time : N.A Think Time : N.A Minimum Instruction Time : 0

Correct Marks : 5 Wrong Marks : 1

Question Key Details :

Key	Value
Comprehension	MCQ

निम्न में से, प्राथमिक बाजार के रूप में संसाधनों को जुटाने के लिए कौन-सी विधि प्रयोग नहीं की जाती है ?

1. सार्वजनिक निर्गम
2. निजी नियोजित अंश निर्गम
3. स्टॉक एक्सचेंज में प्रतिभूति व्यापार
4. कर्मचारियों को प्रस्ताव

Options :

- 485584153141. 1
- 485584153142. 2
- 485584153143. 3
- 485584153144. 4

Question Number : 522 Question Id : 48558438287 Question Type : MCQ Option Shuffling : No Is Question Mandatory : No Calculator : None Response Time : N.A Think Time : N.A Minimum Instruction Time : 0

Correct Marks : 5 Wrong Marks : 1

Question Key Details :

Key	Value
Comprehension	MCQ

_____ market is known as new issues market

1. Capital market
2. Public market
3. Primary market
4. Stock market

Options :

- 485584153145. 1
- 485584153146. 2
- 485584153147. 3
- 485584153148. 4

Question Number : 522 Question Id : 48558438287 Question Type : MCQ Option Shuffling : No Is Question Mandatory : No Calculator : None
Response Time : N.A Think Time : N.A Minimum Instruction Time : 0

Correct Marks : 5 Wrong Marks : 1

Question Key Details :

Key	Value
Comprehension	MCQ

_____ बाजार को नए जारी बाजार के रूप में जाना जाता है

1. पूंजी बाजार
2. सार्वजनिक बाजार
3. प्राथमिक बाजार
4. स्टॉक बाजार

Options :

485584153145. 1
485584153146. 2
485584153147. 3
485584153148. 4

Question Number : 523 Question Id : 48558438288 Question Type : MCQ Option Shuffling : No Is Question Mandatory : No Calculator : None
Response Time : N.A Think Time : N.A Minimum Instruction Time : 0

Correct Marks : 5 Wrong Marks : 1

Question Key Details :

Key	Value
Comprehension	MCQ

Match List I with List II

LIST I Features		LIST II Concept	
A.	These investors are current or retired executives	I.	Venture Capital
B.	It is basically equity finance in relatively new companies	II.	Seed Capital Finance
C.	Capital required for conducting research at pre-commercialisation stage for venture to	III.	Pre public stage
D.	Main goal of this stage is for venture to go public	IV.	Angel Investors

Choose the correct answer from the options given below:

1. A-IV B-I C-II D-III
2. A-II B-IV C-I D-III
3. A-I B-IV C-II D-III
4. A-III B-I C-II D-IV

Options :

485584153149. 1
485584153150. 2
485584153151. 3
485584153152. 4

Question Number : 523 Question Id : 48558438288 Question Type : MCQ Option Shuffling : No Is Question Mandatory : No Calculator : None
Response Time : N.A Think Time : N.A Minimum Instruction Time : 0

Correct Marks : 5 Wrong Marks : 1

Question Key Details :

Key	Value
Comprehension	MCQ

सूची I का सूची II से मिलान कीजिए

सूची I विशेषताएं		सूची II विचार	
A.	ये निवेशक वर्तमान या निवृत्त कार्यकारी हैं	I.	उद्यम पूंजी
B.	ये मूलरूप में नई कंपनी के समता वित्तियन से संबंधित हैं	II.	प्रारम्भिक पूंजी वित्तियन
C.	अनुसंधान के संचालन हेतु पूंजी की आवश्यकता उपक्रम के लिए पूर्व व्यवसायीकरण की स्थिति है	III.	पूर्व जन अवस्था
D.	इस अवस्था का मुख्य उद्देश्य उपकरण पूंजी जनता में जाना है	IV.	पेंजल निवेशक

निम्नलिखित विकल्पों में से सही उत्तर का चयन कीजिए :

1. A-IV B-I C-II D-III
2. A-II B-IV C-I D-III
3. A-I B-IV C-II D-III
4. A-III B-I C-II D-IV

Options :

485584153149. 1
485584153150. 2
485584153151. 3
485584153152. 4

Question Number : 524 Question Id : 48558438289 Question Type : MCQ Option Shuffling : No Is Question Mandatory : No Calculator : None Response Time : N.A Think Time : N.A Minimum Instruction Time : 0

Correct Marks : 5 Wrong Marks : 1

Question Key Details :

Key	Value
Comprehension	MCQ

Raising additional finance from existing stakeholder by offering securities to them on pro rata basis

1. Rights issue
2. Offer to employees
3. Public issue
4. Private placement

Options :

485584153153. 1
485584153154. 2
485584153155. 3
485584153156. 4

Question Number : 524 Question Id : 48558438289 Question Type : MCQ Option Shuffling : No Is Question Mandatory : No Calculator : None Response Time : N.A Think Time : N.A Minimum Instruction Time : 0

Correct Marks : 5 Wrong Marks : 1

Question Key Details :

Key	Value
Comprehension	MCQ

अतिरिक्त पूंजी एकत्र करने के लिए अनुपातिक आधार पर वर्तमान निवेशकों को प्रतिभूति प्रस्तावित करना

1. आधिकारिक निर्गमन
2. कर्मचारियों को प्रस्ताव
3. सार्वजनिक निर्गमन
4. निजी नियोजित

Options :

485584153153. 1
485584153154. 2
485584153155. 3
485584153156. 4

Question Number : 525 Question Id : 48558438290 Question Type : MCQ Option Shuffling : No Is Question Mandatory : No Calculator : None Response Time : N.A Think Time : N.A Minimum Instruction Time : 0

Correct Marks : 5 Wrong Marks : 1

Question Key Details :

Key	Value
Comprehension	MCQ

Which of the following statement is indicating towards "offer to employees" method of flotation of new issue.

1. Most popular method of raising capital
2. Direct sale to limited number of sophisticated investors
3. Offering shares on pro-rata basis
4. This method enables employees to share profits of company leading to higher efficiency

Options :

485584153157. 1
485584153158. 2
485584153159. 3
485584153160. 4

Question Number : 525 Question Id : 48558438290 Question Type : MCQ Option Shuffling : No Is Question Mandatory : No Calculator : None Response Time : N.A Think Time : N.A Minimum Instruction Time : 0

Correct Marks : 5 Wrong Marks : 1

Question Key Details :

Key	Value
Comprehension	MCQ

निम्नलिखित में से कौन-सा कथन "कर्मचारियों को प्रस्ताव" नए शेयर जारी करने की विधि को दर्शाता है ?

1. पूंजी सृजन की बहुत प्रसिद्ध विधि है
2. सीमित संख्या में परिष्कृत निवेशकों को प्रत्यक्ष खिचरी
3. अनुपातिक आधार पर शेयर जारी करने का प्रस्ताव
4. यह विधि कर्मचारियों को लाभ का हिस्सा बाँटने में सक्षम करती है जिससे दक्षता में वृद्धि होती है

Options :

485584153157. 1
485584153158. 2
485584153159. 3
485584153160. 4

Sub-Section Number : 2
Sub-Section Id : 4855842928
Question Shuffling Allowed : No
Is Section Default? : null

Question Number : 526 Question Id : 48558438291 Question Type : MCQ Option Shuffling : No Is Question Mandatory : No Calculator : None
Response Time : N.A Think Time : N.A Minimum Instruction Time : 0

Correct Marks : 5 Wrong Marks : 1

Question Key Details :

Key	Value
Comprehension	Compl

Vanaja and Valsala are twin sisters who hail from the state of Kerala. They observed that children from her village were suffering from deformities due to prolonged use of pesticide contaminated river water and endosulphine sprayed fruits and vegetables. Taking this into cognizance they both plan to start a firm which would promote organic farming in their village. In the beginning, the firm would be an association of two persons who would carry on the business as co-owners, would share profits and losses and would have unlimited liability. In order to avoid conflicts in future they would have a written agreement which will include all the clauses relating to authority and responsibility of members, voting rights and roles and payment of members. The sisters will act as principal and agent for each other and for the firm. They discussed this proposal with the Block Development Officer (BDO). He was very appreciative of their efforts and suggested them to use a catchy slogan which would act as powerful message to communicate their cause. Taking clue from the suggestions made by the BDO, the sisters prepared a document which encompassed the relevant external and internal elements involved in starting a new venture. They approached BHIMA capitals Ltd with their proposal and presented a three-minute executive summary to awaken interest of potential funders. Quite impressed with the idea, the professional investors agreed to provide Private equity seed capital in return for minority shareholding.

Read the case study and answer the following questions.

"They observed that children from her village were suffering from deformities due to prolonged use of pesticide contaminated river water and endosulphine sprayed fruits and vegetables."

Identify the element of the PESTEL model referred in above line

1. Political
2. Economical
3. Legal
4. Ecological

Options :

- 485584153161. 1
- 485584153162. 2
- 485584153163. 3
- 485584153164. 4

Question Number : 526 Question Id : 48558438291 Question Type : MCQ Option Shuffling : No Is Question Mandatory : No Calculator : None
Response Time : N.A Think Time : N.A Minimum Instruction Time : 0

Correct Marks : 5 Wrong Marks : 1

Question Key Details :

Key	Value
Comprehension	Compl

तेनाजा और वेलजाला दो जुड़वा बहने केरल राज्य से है। उन्होंने ध्यान दिया कि उनके गाँव के बच्चे कीटनाशक युक्त नदी जल प्रयोग एवं फलों व सब्जियों पर एंडोसल्फान के छिड़काव के कारण होने वाली विकृति से पीड़ित है। उन दोनों ने इस पर ध्यान देते हुए एक फर्म की स्थापना की योजना बनाई जो गाँव में जैविक खेती को बढ़ावा देगी। शुरुआत में फार्म का गठन दो व्यक्तियों द्वारा दिया गया जो व्यवसाय को सह-स्वामित्व रूप में चलाएंगे। उनका लाभ हानि का भाग और असीमित दायित्वाव है। भविष्य के संघर्ष से बचने के लिए वे एक लिखित समझौता करेंगे जिसमें सदस्यों के अधिकार एवं दायित्व, मतदान अधिकार और सदस्यों के भुगतान में भूमि कर शामिल होंगे। दोनों बहने एक दुसरे की और, फर्म के लिए प्रधान व अधिकर्ता होगी। उन्होंने इस प्रस्ताव पर खण्ड विकास अधिकारी (BDO) से चर्चा की। उसने इनके प्रयास की सराहना की और सुझाव दिया कि अपनी फार्म के लिए एक आकर्षक नाम रखें जो उन्हें एक अद्वितीय पहचान दे और अन्य प्रतियोगियों से अलग हो। साथ ही उसने (BDO) यह भी सलाह दी कि वे प्रयोग करें एक डिजाइन चिह्न, एक एंकर हो संस्था का ब्रांड, एक आकर्षक नारा वाक्य जो उनके मामलों को शक्तिशाली रूप से संप्रेषित करें।

उन्होंने BDO द्वारा दिए गए सलाह के संकेत को समझा। उन्होंने एक दस्तावेज तैयार किया जिसमें नए उपक्रम शुरू करने से संबंधित बाह्य एवं आंतरिक तत्वों को शामिल किया गया। उन्होंने भीमा कैपिटल लि. से संपर्क किया, अपने प्रस्ताव के साथ ही अपने कार्य की तीन मिनट की संक्षिप्त प्रस्तुति कि जिससे उसकी संभावित वित्त पोषक के रूप में उनकी रुचि बढ़े। इस विचार से अत्यंत प्रभावित हुए, पेशेवर निवेशक प्रारंभिक पूंजी के रूप में निजी पूंजी देने के लिए आय में मामूली हिस्सेदारी पर सहमत हुए।

उपर्युक्त केस का अध्ययन करे एवं निम्न प्रश्नों का उत्तर दें।

"उन्होंने ध्यान दिया कि उनके गाँव के बच्चे कीटनाशक युक्त नदी जलप्रयोग एवं फलों व सब्जियों पर एंडोसल्फान के छिड़काव के कारण होने वाली विकृतियों से पीड़ित है।" उपरोक्त वाक्य में पेस्टल मॉडल (PESTEL MODEL) के तत्व को पहचानिए

1. राजनीतिक
2. आर्थिक
3. कानूनी
4. पारिस्थिक

Options :

485584153161. 1
 485584153162. 2
 485584153163. 3
 485584153164. 4

Question Number : 527 Question Id : 48558438292 Question Type : MCQ Option Shuffling : No Is Question Mandatory : No Calculator : None Response Time : N.A Think Time : N.A Minimum Instruction Time : 0

Correct Marks : 5 Wrong Marks : 1

Question Key Details :

Key	Value
Comprehension	Comp1

Vanaja and Valsala are twin sisters who hail from the state of Kerala. They observed that children from her village were suffering from deformities due to prolonged use of pesticide contaminated river water and endosulphine sprayed fruits and vegetables. Taking this into cognizance they both plan to start a firm which would promote organic farming in their village. In the beginning, the firm would be an association of two persons who would carry on the business as co-owners, would share profits and losses and would have unlimited liability. In order to avoid conflicts in future they would have a written agreement which will include all the clauses relating to authority and responsibility of members, voting rights and roles and payment of members. The sisters will act as principal and agent for each other and for the firm. They discussed this proposal with the Block Development Officer (BDO). He was very appreciative of their efforts and suggested them to use a catchy slogan which would act as powerful message to communicate their cause. Taking clue from the suggestions made by the BDO, the sisters prepared a document which encompassed the relevant external and internal elements involved in starting a new venture. They approached BHIMA capitals Ltd with their proposal and presented a three-minute executive summary to awaken interest of potential funders. Quite impressed with the idea, the professional investors agreed to provide Private equity seed capital in return for minority shareholding.

Read the case study and answer the following questions.

Identify the form of business organization that Vanaja and Valsala plan to start.

1. Sole proprietorship
2. Partnership
3. Private company
4. Public company

Options :

- 485584153165. 1
- 485584153166. 2
- 485584153167. 3
- 485584153168. 4

Question Number : 527 Question Id : 48558438292 Question Type : MCQ Option Shuffling : No Is Question Mandatory : No Calculator : None Response Time : N.A Think Time : N.A Minimum Instruction Time : 0

Correct Marks : 5 Wrong Marks : 1

Question Key Details :

Key	Value
Comprehension	Comp1

वेनाजा और वेलजाला दो जुड़वा बहनें केरल राज्य से हैं। उन्होंने ध्यान दिया कि उनके गाँव के बच्चे कीटनाशक युक्त नदी जल प्रयोग एवं फलों व सब्जियों पर एंटीसल्फान के छिड़काव के कारण होने वाली विकृति से पीड़ित हैं। उन दोनों ने इस पर ध्यान देते हुए एक फार्म की स्थापना की योजना बनाई जो गाँव में जैविक खेती को बढ़ावा देगी। शुरुआत में फार्म का गठन दो व्यक्तियों द्वारा दिया गया जो व्यवसाय को सह-स्वामित्व रूप में चलाएंगे। उनका लाभ हानि का भाग और असीमित दायित्वाव है। भविष्य के संघर्ष से बचने के लिए वे एक लिखित समझौता करेंगे जिसमें सदस्यों के अधिकार एवं दायित्व, मतदान अधिकार और सदस्यों के भुगतान में भूमि कर शामिल होंगे। दोनों बहनें एक दुसरे की और, फार्म के लिए प्रधान व अधिकर्ता होंगी। उन्होंने इस प्रस्ताव पर खण्ड विकास अधिकारी (BDO) से चर्चा की। उसने इनके प्रयास की सराहना की और सुझाव दिया कि अपनी फार्म के लिए एक आकर्षक नाम रखें जो उन्हें एक अद्वितीय पहचान दे और अन्य प्रतियोगियों से अलग हो। साथ ही उसने (BDO) यह भी सलाह दी कि वे प्रयोग करें एक डिजाइन चिह्न, एक एंकर हो संस्था का ब्रांड, एक आकर्षक नारा वाक्य जो उनके मामलों को शक्तिशाली रूप से संप्रेषित करें।

उन्होंने BDO द्वारा दिए गए सलाह के संकेत को समझा। उन्होंने एक दस्तावेज तैयार किया जिसमें नए उपक्रम शुरू करने से संबंधित बाह्य एवं आंतरिक तत्वों को शामिल किया गया। उन्होंने भीमा कैपिटल लि. से संपर्क किया, अपने प्रस्ताव के साथ ही अपने कार्य की तीन मिनट की संक्षिप्त प्रस्तुति कि जिससे उसकी संभावित वित्त पोषक के रूप में उनकी रुचि बढ़े। इस विचार से अत्यंत प्रभावित हुए, पेशेवर निवेशक प्रारंभिक पूंजी के रूप में निजी पूंजी देने के लिए आय में मामूली हिस्सेदारी पर सहमत हुए।

उपर्युक्त केस का अध्ययन करे एवं निम्न प्रश्नों का उत्तर दें।

वेनाजा व वेलजाला द्वारा नियोजित व्यवसायिक संगठन के रूप को पहचानिए

1. एक स्वामित्व
2. साझेदारी
3. निजी कम्पनी
4. सार्वजनिक कम्पनी

Options :

485584153165. 1
 485584153166. 2
 485584153167. 3
 485584153168. 4

Question Number : 528 Question Id : 48558438293 Question Type : MCQ Option Shuffling : No Is Question Mandatory : No Calculator : None Response Time : N.A Think Time : N.A Minimum Instruction Time : 0

Correct Marks : 5 Wrong Marks : 1

Question Key Details :

Key	Value
Comprehension	Comp1

Vanaja and Valsala are twin sisters who hail from the state of Kerala. They observed that children from her village were suffering from deformities due to prolonged use of pesticide contaminated river water and endosulphine sprayed fruits and vegetables. Taking this into cognizance they both plan to start a firm which would promote organic farming in their village. In the beginning, the firm would be an association of two persons who would carry on the business as co-owners, would share profits and losses and would have unlimited liability. In order to avoid conflicts in future they would have a written agreement which will include all the clauses relating to authority and responsibility of members, voting rights and roles and payment of members. The sisters will act as principal and agent for each other and for the firm. They discussed this proposal with the Block Development Officer (BDO). He was very appreciative of their efforts and suggested them to use a catchy slogan which would act as powerful message to communicate their cause. Taking clue from the suggestions made by the BDO, the sisters prepared a document which encompassed the relevant external and internal elements involved in starting a new venture. They approached BHIMA capitals Ltd with their proposal and presented a three-minute executive summary to awaken interest of potential funders. Quite impressed with the idea, the professional investors agreed to provide Private equity seed capital in return for minority shareholding.

Read the case study and answer the following questions.

Identify the agreement prepared by Vanaja and Valsala which may be referred to during conflicts among Vanaja and Valsala.

1. Rent agreement
2. Partnership Deed
3. Dealership Agreement
4. Franchise Agreement

Options :

- 485584153169. 1
- 485584153170. 2
- 485584153171. 3
- 485584153172. 4

Question Number : 528 Question Id : 48558438293 Question Type : MCQ Option Shuffling : No Is Question Mandatory : No Calculator : None Response Time : N.A Think Time : N.A Minimum Instruction Time : 0

Correct Marks : 5 Wrong Marks : 1

Question Key Details :

Key	Value
Comprehension	Comp1

वेनाजा और वेलजाला दो जुड़वा बहनें केरल राज्य से हैं। उन्होंने ध्यान दिया कि उनके गाँव के बच्चे कीटनाशक युक्त नदी जल प्रयोग एवं फलों व सब्जियों पर एंटीसल्फान के छिड़काव के कारण होने वाली विकृति से पीड़ित हैं। उन दोनों ने इस पर ध्यान देते हुए एक फार्म की स्थापना की योजना बनाई जो गाँव में जैविक खेती को बढ़ावा देगी। शुरुआत में फार्म का गठन दो व्यक्तियों द्वारा दिया गया जो व्यवसाय को सह-स्वामित्व रूप में चलाएंगे। उनका लाभ हानि का भाग और असीमित दायित्वाव है। भविष्य के संघर्ष से बचने के लिए वे एक लिखित समझौता करेंगे जिसमें सदस्यों के अधिकार एवं दायित्व, मतदान अधिकार और सदस्यों के भुगतान में भूमि कर शामिल होंगे। दोनों बहनें एक दुसरे की और, फार्म के लिए प्रधान व अधिकर्ता होंगी। उन्होंने इस प्रस्ताव पर खण्ड विकास अधिकारी (BDO) से चर्चा की। उसने इनके प्रयास की सराहना की और सुझाव दिया कि अपनी फार्म के लिए एक आकर्षक नाम रखें जो उन्हें एक अद्वितीय पहचान दे और अन्य प्रतियोगियों से अलग हो। साथ ही उसने (BDO) यह भी सलाह दी कि वे प्रयोग करें एक डिजाइन चिह्न, एक एंकर हो संस्था का ब्रांड, एक आकर्षक नारा वाक्य जो उनके मामलों को शक्तिशाली रूप से संप्रेषित करें।

उन्होंने BDO द्वारा दिए गए सलाह के संकेत को समझा। उन्होंने एक दस्तावेज तैयार किया जिसमें नए उपक्रम शुरू करने से संबंधित बाह्य एवं आंतरिक तत्वों को शामिल किया गया। उन्होंने भीमा कैपिटल लि, से संपर्क किया, अपने प्रस्ताव के साथ ही अपने कार्य की तीन मिनट की संक्षिप्त प्रस्तुति कि जिससे उसकी संभावित वित्त पोषक के रूप में उनकी रुचि बढ़े। इस विचार से अत्यंत प्रभावित हुए, पेशेवर निवेशक प्रारंभिक पूंजी के रूप में निजी पूंजी देने के लिए आय में मामूली हिस्सेदारी पर सहमत हुए।

उपर्युक्त केस का अध्ययन करे एवं निम्न प्रश्नों का उत्तर दें।

वेनाजा और वेलजाला द्वारा तैयार लिखित समझौता को पहचानिए जो भविष्य में होने वाले संघर्षों के संदर्भ में है

1. किराया समझौता (अनुबंध)
2. साझेदारी सलेख
3. नामाधिकार समझौता
4. फ्रेंचाइजी समझौता

Options :

485584153169. 1

485584153170. 2

485584153171. 3

485584153172. 4

Question Number : 529 Question Id : 48558438294 Question Type : MCQ Option Shuffling : No Is Question Mandatory : No Calculator : None Response Time : N.A Think Time : N.A Minimum Instruction Time : 0

Correct Marks : 5 Wrong Marks : 1

Question Key Details :

Key	Value
Comprehension	Compl

Vanaja and Valsala are twin sisters who hail from the state of Kerala. They observed that children from her village were suffering from deformities due to prolonged use of pesticide contaminated river water and endosulphine sprayed fruits and vegetables. Taking this into cognizance they both plan to start a firm which would promote organic farming in their village. In the beginning, the firm would be an association of two persons who would carry on the business as co-owners, would share profits and losses and would have unlimited liability. In order to avoid conflicts in future they would have a written agreement which will include all the clauses relating to authority and responsibility of members, voting rights and roles and payment of members. The sisters will act as principal and agent for each other and for the firm. They discussed this proposal with the Block Development Officer (BDO). He was very appreciative of their efforts and suggested them to use a catchy slogan which would act as powerful message to communicate their cause. Taking clue from the suggestions made by the BDO, the sisters prepared a document which encompassed the relevant external and internal elements involved in starting a new venture. They approached BHIMA capitals Ltd with their proposal and presented a three-minute executive summary to awaken interest of potential funders. Quite impressed with the idea, the professional investors agreed to provide Private equity seed capital in return for minority shareholding.

Read the case study and answer the following questions.

"The sisters will act as principal and agent for each other and for the firm".

Identify the essential feature of the firm as mentioned in the line above.

1. Profit sharing
2. Utmost good faith
3. Implied authority
4. Mutual agency

Options :

- 485584153173. 1
- 485584153174. 2
- 485584153175. 3
- 485584153176. 4

Question Number : 529 Question Id : 48558438294 Question Type : MCQ Option Shuffling : No Is Question Mandatory : No Calculator : None Response Time : N.A Think Time : N.A Minimum Instruction Time : 0

Correct Marks : 5 Wrong Marks : 1

Question Key Details :

Key	Value
Comprehension	Compl

तेनाजा और जेलजाला दो जुड़वा बहने केरल राज्य से है। उन्होंने ध्यान दिया कि उनके गई के बच्चे कीटनाशक युक्त नदी जल प्रयोग एवं फलों व सब्जियों पर एंटीसल्फान के छिठकाव के कारण होने वाली विकृति से पीड़ित है। उन दोनों ने इस पर ध्यान देते हुए एक फर्म की स्थापना की योजना बनाई जो गाँव में जैविक खेती को बढ़ावा देगी। शुरुआत में फर्म का गठन दो व्यक्तियों द्वारा दिया गया जो व्यवसाय को सह-स्वामित्व रूप में चलाएंगे। उनका लाभ हानि का भाग और असीमित दायित्वाव है। भविष्य के संघर्ष से बचने के लिए वे एक लिखित समझौता करेंगे जिसमें सदस्यों के अधिकार एवं दायित्व, मतदान अधिकार और सदस्यों के भुगतान में भूमि कर शामिल होंगे। दोनों बहने एक दुसरे की और, फर्म के लिए प्रधान व अधिकर्ता होगी। उन्होंने इस प्रस्ताव पर खण्ड विकास अधिकारी (BDO) से चर्चा की। उसने इनके प्रयास की सराहना की और सुझाव दिया कि अपनी फर्म के लिए एक आकर्षक नाम रखें जो उन्हें एक अद्वितीय पहचान दें और अन्य प्रतियोगियों से अलग हो। साथ ही उसने (BDO) यह भी सलाह दी कि वे प्रयोग करें एक डिजाइन चिह्न, एक एंकर हो संस्था का ब्रांड, एक आकर्षक नारा वाक्य जो उनके मामलों को शक्तिशाली रूप से संप्रेषित करें।

उन्होंने BDO द्वारा दिए गए सलाह के संकेत को समझा। उन्होंने एक दस्तावेज तैयार किया जिसमें नए उपक्रम शुरू करने से संबंधित बाह्य एवं आंतरिक तत्वों को शामिल किया गया। उन्होंने भीमा कैपिटल लि, से संपर्क किया, अपने प्रस्ताव के साथ ही अपने कार्य की तीन मिनट की संक्षिप्त प्रस्तुति कि जिससे उसकी संभावित वित्त पोषक के रूप में उनकी रुचि बढ़े। इस विचार से अत्यंत प्रभावित हुए, पेशेवर निवेशक प्रारंभिक पूंजी के रूप में निजी पूंजी देने के लिए आय में मामूली हिस्सेदारी पर सहमत हुए।

उपर्युक्त केस का अध्ययन करे एवं निम्न प्रश्नों का उत्तर दें।

“दोनों बहने एक दूसरे और फर्म के लिए प्रधान और एजेंट के रूप में कार्य करेगी।”

उपरोक्त वाक्य में दर्शाई गई फर्म की आवश्यक विशेषता को पहचानिए

1. लाभ विभाजन
2. अति विश्वास
3. निहित अधिकार
4. पारस्परिक अभिकरण

Options :

485584153173. 1
 485584153174. 2
 485584153175. 3
 485584153176. 4

Question Number : 530 Question Id : 48558438295 Question Type : MCQ Option Shuffling : No Is Question Mandatory : No Calculator : None Response Time : N.A Think Time : N.A Minimum Instruction Time : 0

Correct Marks : 5 Wrong Marks : 1

Question Key Details :

Key	Value
Comprehension	Compl

Vanaja and Valsala are twin sisters who hail from the state of Kerala. They observed that children from her village were suffering from deformities due to prolonged use of pesticide contaminated river water and endosulphine sprayed fruits and vegetables. Taking this into cognizance they both plan to start a firm which would promote organic farming in their village. In the beginning, the firm would be an association of two persons who would carry on the business as co-owners, would share profits and losses and would have unlimited liability. In order to avoid conflicts in future they would have a written agreement which will include all the clauses relating to authority and responsibility of members, voting rights and roles and payment of members. The sisters will act as principal and agent for each other and for the firm. They discussed this proposal with the Block Development Officer (BDO). He was very appreciative of their efforts and suggested them to use a catchy slogan which would act as powerful message to communicate their cause. Taking clue from the suggestions made by the BDO, the sisters prepared a document which encompassed the relevant external and internal elements involved in starting a new venture. They approached BHIMA capitals Ltd with their proposal and presented a three-minute executive summary to awaken interest of potential funders. Quite impressed with the idea, the professional investors agreed to provide Private equity seed capital in return for minority shareholding.

Read the case study and answer the following questions.

The Block Development Officer (BDO) suggested them to use a catchy and attractive name for their firm to give them a unique identity and differentiate from competitors.

Identify the concept referred here.

1. Brand mark
2. Logo
3. Brand name
4. Tagline

Options :

- 485584153177. 1
- 485584153178. 2
- 485584153179. 3
- 485584153180. 4

Question Number : 530 Question Id : 48558438295 Question Type : MCQ Option Shuffling : No Is Question Mandatory : No Calculator : None Response Time : N.A Think Time : N.A Minimum Instruction Time : 0

Correct Marks : 5 Wrong Marks : 1

Question Key Details :

Key	Value
Comprehension	Comp1

तेनाजा और वेलजाला दो जुड़वा बहने केरल राज्य से है। उन्होंने ध्यान दिया कि उनके गई के बच्चे कीटनाशक युक्त नदी जल प्रयोग एवं फलों व सब्जियों पर एंटीसल्फान के छिड़काव के कारण होने वाली विकृति से पीड़ित है। उन दोनों ने इस पर ध्यान देते हुए एक फर्म की स्थापना की योजना बनाई जो गाँव में जैविक खेती को बढ़ावा देगी। शुरुआत में फार्म का गठन दो व्यक्तियों द्वारा दिया गया जो व्यवसाय को सह-स्वामित्व रूप में चलाएंगे। उनका लाभ हानि का भाग और असीमित दायित्वाव है। भविष्य के संघर्ष से बचने के लिए वे एक लिखित समझौता करेंगे जिसमें सदस्यों के अधिकार एवं दायित्व, मतदान अधिकार और सदस्यों के भुगतान में भूमि कर शामिल होंगे। दोनों बहने एक दुसरे की और, फर्म के लिए प्रधान व अधिकर्ता होगी। उन्होंने इस प्रस्ताव पर खण्ड विकास अधिकारी (BDO) से चर्चा की। उसने इनके प्रयास की सराहना की और सुझाव दिया कि अपनी फार्म के लिए एक आकर्षक नाम रखें जो उन्हें एक अद्वितीय पहचान दें और अन्य प्रतियोगियों से अलग हो। साथ ही उसने (BDO) यह भी सलाह दी कि वे प्रयोग करें एक डिजाइन चिह्न, एक एंकर हो संस्था का ब्रांड, एक आकर्षक नारा वाक्य जो उनके मामलों को शक्तिशाली रूप से संप्रेषित करें।

उन्होंने BDO द्वारा दिए गए सलाह के संकेत को समझा। उन्होंने एक दस्तावेज तैयार किया जिसमें नए उपक्रम शुरू करने से संबंधित बाह्य एवं आंतरिक तत्वों को शामिल किया गया। उन्होंने भीमा कैपिटल लि, से संपर्क किया, अपने प्रस्ताव के साथ ही अपने कार्य की तीन मिनट की संक्षिप्त प्रस्तुति कि जिससे उसकी संभावित वित्त पोषक के रूप में उनकी रुचि बढ़े। इस विचार से अत्यंत प्रभावित हुए, पेशेवर निवेशक प्रारंभिक पूंजी के रूप में निजी पूंजी देने के लिए आय में मामूली हिस्सेदारी पर सहमत हुए।

उपर्युक्त केस का अध्ययन करे एवं निम्न प्रश्नों का उत्तर दें।

"खंड विकास अधिकारी द्वारा सुझाया गया कि वे अपनी फर्म के लिए एक आकर्षक नाम चुने जो उन्हें एक अद्वितीय पहचान दें और अन्य प्रतियोगियों से अलग करें।"

1. ब्रांड चिह्न
2. लोगो
3. ब्रांड नाम
4. प्रचार वाक्य

Options :

485584153177. 1
485584153178. 2
485584153179. 3
485584153180. 4

Sub-Section Number :

3

Sub-Section Id :

4855842929

Question Shuffling Allowed :

No

Is Section Default? :

null

Question Number : 531 Question Id : 48558438296 Question Type : MCQ Option Shuffling : No Is Question Mandatory : No Calculator : None

Response Time : N.A Think Time : N.A Minimum Instruction Time : 0

Correct Marks : 5 Wrong Marks : 1

Question Key Details :

Key	Value
Comprehension	Comp2

Vanaja and Valsala are twin sisters who hail from the state of Kerala. They observed that children from her village were suffering from deformities due to prolonged use of pesticide contaminated river water and endosulphine sprayed fruits and vegetables. Taking this into cognizance they both plan to start a firm which would promote organic farming in their village. In the beginning, the firm would be an association of two persons who would carry on the business as co-owners, would share profits and losses and would have unlimited liability. In order to avoid conflicts in future they would have a written agreement which will include all the clauses relating to authority and responsibility of members, voting rights and roles and payment of members. The sisters will act as principal and agent for each other and for the firm. They discussed this proposal with the Block Development Officer (BDO). He was very appreciative of their efforts and suggested them to use a catchy slogan which would act as powerful message to communicate their cause. Taking clue from the suggestions made by the BDO, the sisters prepared a document which encompassed the relevant external and internal elements involved in starting a new venture. They approached BHIMA capitals Ltd with their proposal and presented a three-minute executive summary to awaken interest of potential funders. Quite impressed with the idea, the professional investors agreed to provide Private equity seed capital in return for minority shareholding.

Read the case study and answer the following questions.

Identify the term used for the design, symbol which would anchor the firm's identity.

1. Brand mark
2. Logo
3. Brand name
4. Tagline

Options :

- 485584153181. 1
- 485584153182. 2
- 485584153183. 3
- 485584153184. 4

Question Number : 531 Question Id : 48558438296 Question Type : MCQ Option Shuffling : No Is Question Mandatory : No Calculator : None Response Time : N.A Think Time : N.A Minimum Instruction Time : 0

Correct Marks : 5 Wrong Marks : 1

Question Key Details :

Key	Value
Comprehension	Comp2

तेनाजा और वेलजाला दो जुड़वा बहनें केरल राज्य से हैं। उन्होंने ध्यान दिया कि उनके गाँव के बच्चे कीटनाशक युक्त नदी जल प्रयोग एवं फलों व सब्जियों पर एंटीसल्फान के छिड़काव के कारण होने वाली विकृति से पीड़ित हैं। उन दोनों ने इस पर ध्यान देते हुए एक फार्म की स्थापना की योजना बनाई जो गाँव में जैविक खेती को बढ़ावा देगी। शुरुआत में फार्म का गठन दो व्यक्तियों द्वारा दिया गया जो व्यवसाय को सह-स्वामित्व रूप में चलाएंगे। उनका लाभ हानि का भाग और असीमित दायित्वाव है। भविष्य के संघर्ष से बचने के लिए वे एक लिखित समझौता करेंगे जिसमें सदस्यों के अधिकार एवं दायित्व, मतदान अधिकार और सदस्यों के भुगतान में भूमि कर शामिल होंगे। दोनों बहनें एक दुसरे की और, फार्म के लिए प्रधान व अधिकर्ता होंगी। उन्होंने इस प्रस्ताव पर खण्ड विकास अधिकारी (BDO) से चर्चा की। उसने इनके प्रयास की सराहना की और सुझाव दिया कि अपनी फार्म के लिए एक आकर्षक नाम रखें जो उन्हें एक अद्वितीय पहचान दे और अन्य प्रतियोगियों से अलग हो। साथ ही उसने (BDO) यह भी सलाह दी कि वे प्रयोग करें एक डिजाइन चिह्न, एक एंकर हो संस्था का ब्रांड, एक आकर्षक नारा वाक्य जो उनके मामलों को शक्तिशाली रूप से संप्रेषित करें।

उन्होंने BDO द्वारा दिए गए सलाह के संकेत को समझा। उन्होंने एक दस्तावेज तैयार किया जिसमें नए उपक्रम शुरू करने से संबंधित बाह्य एवं आंतरिक तत्वों को शामिल किया गया। उन्होंने भीमा कैपिटल लि. से संपर्क किया, अपने प्रस्ताव के साथ ही अपने कार्य की तीन मिनट की संक्षिप्त प्रस्तुति कि जिससे उसकी संभावित वित्त पोषक के रूप में उनकी रुचि बढ़े। इस विचार से अत्यंत प्रभावित हुए, पेशेवर निवेशक प्रारंभिक पूंजी के रूप में निजी पूंजी देने के लिए आय में मामूली हिस्सेदारी पर सहमत हुए।

उपर्युक्त केस का अध्ययन करें एवं निम्न प्रश्नों का उत्तर दें।

उस मद को पहचाने जिसके लिए डिजाइन, चिह्न और एंकर फार्म के संबंध में प्रयोग हुए

1. ब्रांड चिह्न
2. लोगो
3. ब्रांड नाम
4. प्रचार वाक्य

Options :

485584153181. 1
 485584153182. 2
 485584153183. 3
 485584153184. 4

Question Number : 532 Question Id : 48558438297 Question Type : MCQ Option Shuffling : No Is Question Mandatory : No Calculator : None Response Time : N.A Think Time : N.A Minimum Instruction Time : 0

Correct Marks : 5 Wrong Marks : 1

Question Key Details :

Key	Value
Comprehension	Comp2

Vanaja and Valsala are twin sisters who hail from the state of Kerala. They observed that children from her village were suffering from deformities due to prolonged use of pesticide contaminated river water and endosulphine sprayed fruits and vegetables. Taking this into cognizance they both plan to start a firm which would promote organic farming in their village. In the beginning, the firm would be an association of two persons who would carry on the business as co-owners, would share profits and losses and would have unlimited liability. In order to avoid conflicts in future they would have a written agreement which will include all the clauses relating to authority and responsibility of members, voting rights and roles and payment of members. The sisters will act as principal and agent for each other and for the firm. They discussed this proposal with the Block Development Officer (BDO). He was very appreciative of their efforts and suggested them to use a catchy slogan which would act as powerful message to communicate their cause. Taking clue from the suggestions made by the BDO, the sisters prepared a document which encompassed the relevant external and internal elements involved in starting a new venture. They approached BHIMA capitals Ltd with their proposal and presented a three-minute executive summary to awaken interest of potential funders. Quite impressed with the idea, the professional investors agreed to provide Private equity seed capital in return for minority shareholding.

Read the case study and answer the following questions.

"A catchy slogan which would act as powerful message to communicate their cause." Identify the commonly used term for the catchy slogan.

1. Brand mark
2. Logo
3. Brand name
4. Tagline

Options :

- 485584153185. 1
- 485584153186. 2
- 485584153187. 3
- 485584153188. 4

Question Number : 532 Question Id : 48558438297 Question Type : MCQ Option Shuffling : No Is Question Mandatory : No Calculator : None Response Time : N.A Think Time : N.A Minimum Instruction Time : 0

Correct Marks : 5 Wrong Marks : 1

Question Key Details :

Key	Value
Comprehension	Comp2

तेनाजा और वेलजाला दो जुड़वा बहनें केरल राज्य से हैं। उन्होंने ध्यान दिया कि उनके गाँव के बच्चे कीटनाशक युक्त नदी जल प्रयोग एवं फलों व सब्जियों पर एंटीसल्फान के छिड़काव के कारण होने वाली विकृति से पीड़ित हैं। उन दोनों ने इस पर ध्यान देते हुए एक फार्म की स्थापना की योजना बनाई जो गाँव में जैविक खेती को बढ़ावा देगी। शुरुआत में फार्म का गठन दो व्यक्तियों द्वारा दिया गया जो व्यवसाय को सह-स्वामित्व रूप में चलाएंगे। उनका लाभ हानि का भाग और असीमित दायित्वाव है। भविष्य के संघर्ष से बचने के लिए वे एक लिखित समझौता करेंगे जिसमें सदस्यों के अधिकार एवं दायित्व, मतदान अधिकार और सदस्यों के भुगतान में भूमि कर शामिल होंगे। दोनों बहनें एक दुसरे की और, फार्म के लिए प्रधान व अधिकर्ता होगी। उन्होंने इस प्रस्ताव पर खण्ड विकास अधिकारी (BDO) से चर्चा की। उसने इनके प्रयास की सराहना की और सुझाव दिया कि अपनी फार्म के लिए एक आकर्षक नाम रखें जो उन्हें एक अद्वितीय पहचान दे और अन्य प्रतियोगियों से अलग हो। साथ ही उसने (BDO) यह भी सलाह दी कि वे प्रयोग करें एक डिजाइन चिह्न, एक एंकर हो संस्था का ब्रांड, एक आकर्षक नारा वाक्य जो उनके मामले को शक्तिशाली रूप से संप्रेषित करें।

उन्होंने BDO द्वारा दिए गए सलाह के संकेत को समझा। उन्होंने एक दस्तावेज तैयार किया जिसमें नए उपक्रम शुरू करने से संबंधित बाह्य एवं आंतरिक तत्वों को शामिल किया गया। उन्होंने भीमा कैपिटल लि. से संपर्क किया, अपने प्रस्ताव के साथ ही अपने कार्य की तीन मिनट की संक्षिप्त प्रस्तुति कि जिससे उसकी संभावित वित्त पोषक के रूप में उनकी रुचि बढ़े। इस विचार से अत्यंत प्रभावित हुए, पेशेवर निवेशक प्रारंभिक पूंजी के रूप में निजी पूंजी देने के लिए आय में मामूली हिस्सेदारी पर सहमत हुए।

उपर्युक्त केस का अध्ययन करें एवं निम्न प्रश्नों का उत्तर दें।

“एक आकर्षक नारा वाक्य जो उनके मामले को (विषयों को) शक्तिशाली रूप में प्रेषित करें।”

1. ब्रांड चिह्न
2. लोगो
3. ब्रांड नाम
4. प्रचार वाक्य

Options :

485584153185. 1
485584153186. 2
485584153187. 3
485584153188. 4

Question Number : 533 Question Id : 48558438298 Question Type : MCQ Option Shuffling : No Is Question Mandatory : No Calculator : None Response Time : N.A Think Time : N.A Minimum Instruction Time : 0

Correct Marks : 5 Wrong Marks : 1

Question Key Details :

Key	Value
Comprehension	Comp2

Vanaja and Valsala are twin sisters who hail from the state of Kerala. They observed that children from her village were suffering from deformities due to prolonged use of pesticide contaminated river water and endosulphine sprayed fruits and vegetables. Taking this into cognizance they both plan to start a firm which would promote organic farming in their village. In the beginning, the firm would be an association of two persons who would carry on the business as co-owners, would share profits and losses and would have unlimited liability. In order to avoid conflicts in future they would have a written agreement which will include all the clauses relating to authority and responsibility of members, voting rights and roles and payment of members. The sisters will act as principal and agent for each other and for the firm. They discussed this proposal with the Block Development Officer (BDO). He was very appreciative of their efforts and suggested them to use a catchy slogan which would act as powerful message to communicate their cause. Taking clue from the suggestions made by the BDO, the sisters prepared a document which encompassed the relevant external and internal elements involved in starting a new venture. They approached BHIMA capitals Ltd with their proposal and presented a three-minute executive summary to awaken interest of potential funders. Quite impressed with the idea, the professional investors agreed to provide Private equity seed capital in return for minority shareholding.

Read the case study and answer the following questions.

Identify the document which encompasses the relevant external and internal elements involved in starting a new venture.

1. Business Plan
2. Business Idea
3. Business Finance
4. Business operations

Options :

- 485584153189. 1
- 485584153190. 2
- 485584153191. 3
- 485584153192. 4

Question Number : 533 Question Id : 48558438298 Question Type : MCQ Option Shuffling : No Is Question Mandatory : No Calculator : None Response Time : N.A Think Time : N.A Minimum Instruction Time : 0

Correct Marks : 5 Wrong Marks : 1

Question Key Details :

Key	Value
Comprehension	Comp2

तेनाजा और वेलजाला दो जुड़वा बहनें केरल राज्य से हैं। उन्होंने ध्यान दिया कि उनके गाँव के बच्चे कीटनाशक युक्त नदी जल प्रयोग एवं फलों व सब्जियों पर एंटीसल्फान के छिड़काव के कारण होने वाली विकृति से पीड़ित हैं। उन दोनों ने इस पर ध्यान देते हुए एक फार्म की स्थापना की योजना बनाई जो गाँव में जैविक खेती को बढ़ावा देगी। शुरुआत में फार्म का गठन दो व्यक्तियों द्वारा दिया गया जो व्यवसाय को सह-स्वामित्व रूप में चलाएंगे। उनका लाभ हानि का भाग और असीमित दायित्वाव है। भविष्य के संघर्ष से बचने के लिए वे एक लिखित समझौता करेंगे जिसमें सदस्यों के अधिकार एवं दायित्व, मतदान अधिकार और सदस्यों के भुगतान में भूमि कर शामिल होंगे। दोनों बहनें एक दुसरे की और, फार्म के लिए प्रधान व अधिकर्ता होंगी। उन्होंने इस प्रस्ताव पर खण्ड विकास अधिकारी (BDO) से चर्चा की। उसने इनके प्रयास की सराहना की और सुझाव दिया कि अपनी फार्म के लिए एक आकर्षक नाम रखें जो उन्हें एक अद्वितीय पहचान दे और अन्य प्रतियोगियों से अलग हो। साथ ही उसने (BDO) यह भी सलाह दी कि वे प्रयोग करें एक डिजाइन चिह्न, एक एंकर हो संस्था का ब्रांड, एक आकर्षक नारा वाक्य जो उनके मामलों को शक्तिशाली रूप से संप्रेषित करें।

उन्होंने BDO द्वारा दिए गए सलाह के संकेत को समझा। उन्होंने एक दस्तावेज तैयार किया जिसमें नए उपक्रम शुरू करने से संबंधित बाह्य एवं आंतरिक तत्वों को शामिल किया गया। उन्होंने भीमा कैपिटल लि. से संपर्क किया, अपने प्रस्ताव के साथ ही अपने कार्य की तीन मिनट की संक्षिप्त प्रस्तुति कि जिससे उसकी संभावित वित्त पोषक के रूप में उनकी रुचि बढ़े। इस विचार से अत्यंत प्रभावित हुए, पेशेवर निवेशक प्रारंभिक पूंजी के रूप में निजी पूंजी देने के लिए आय में मामूली हिस्सेदारी पर सहमत हुए।

उपर्युक्त केस का अध्ययन करे एवं निम्न प्रश्नों का उत्तर दें।

उस दस्तावेज को पहचानिए जिसमें नए उपक्रम शुरू से संबंधित बाह्य एवं आंतरिक तत्वों को शामिल किया गया

1. व्यवसाय योजना
2. व्यवसाय विचार
3. व्यवसाय वित्त
4. व्यवसाय संचालन

Options :

485584153189. 1
 485584153190. 2
 485584153191. 3
 485584153192. 4

Question Number : 534 Question Id : 48558438299 Question Type : MCQ Option Shuffling : No Is Question Mandatory : No Calculator : None Response Time : N.A Think Time : N.A Minimum Instruction Time : 0

Correct Marks : 5 Wrong Marks : 1

Question Key Details :

Key	Value
Comprehension	Comp2

Vanaja and Valsala are twin sisters who hail from the state of Kerala. They observed that children from her village were suffering from deformities due to prolonged use of pesticide contaminated river water and endosulphine sprayed fruits and vegetables. Taking this into cognizance they both plan to start a firm which would promote organic farming in their village. In the beginning, the firm would be an association of two persons who would carry on the business as co-owners, would share profits and losses and would have unlimited liability. In order to avoid conflicts in future they would have a written agreement which will include all the clauses relating to authority and responsibility of members, voting rights and roles and payment of members. The sisters will act as principal and agent for each other and for the firm. They discussed this proposal with the Block Development Officer (BDO). He was very appreciative of their efforts and suggested them to use a catchy slogan which would act as powerful message to communicate their cause. Taking clue from the suggestions made by the BDO, the sisters prepared a document which encompassed the relevant external and internal elements involved in starting a new venture. They approached BHIMA capitals Ltd with their proposal and presented a three-minute executive summary to awaken interest of potential funders. Quite impressed with the idea, the professional investors agreed to provide Private equity seed capital in return for minority shareholding.

Read the case study and answer the following questions.

Identify the format of the document prepared by the sisters to awaken the interest of potential funders.

1. Internal operational plan
2. Written presentation for external stakeholders
3. Pitch deck with oral narrative
4. Elevators

Options :

- 485584153193. 1
- 485584153194. 2
- 485584153195. 3
- 485584153196. 4

Question Number : 534 Question Id : 48558438299 Question Type : MCQ Option Shuffling : No Is Question Mandatory : No Calculator : None Response Time : N.A Think Time : N.A Minimum Instruction Time : 0

Correct Marks : 5 Wrong Marks : 1

Question Key Details :

Key	Value
Comprehension	Comp2

तेनाजा और वेलजाला दो जुड़वा बहनें केरल राज्य से हैं। उन्होंने ध्यान दिया कि उनके गाँव के बच्चे कीटनाशक युक्त नदी जल प्रयोग एवं फलों व सब्जियों पर एंटीसल्फान के छिड़काव के कारण होने वाली विकृति से पीड़ित हैं। उन दोनों ने इस पर ध्यान देते हुए एक फार्म की स्थापना की योजना बनाई जो गाँव में जैविक खेती को बढ़ावा देगी। शुरुआत में फार्म का गठन दो व्यक्तियों द्वारा दिया गया जो व्यवसाय को सह-स्वामित्व रूप में चलाएंगे। उनका लाभ हानि का भाग और असीमित दायित्वाव है। भविष्य के संघर्ष से बचने के लिए वे एक लिखित समझौता करेंगे जिसमें सदस्यों के अधिकार एवं दायित्व, मतदान अधिकार और सदस्यों के भुगतान में भूमि कर शामिल होंगे। दोनों बहनें एक दुसरे की और, फार्म के लिए प्रधान व अधिकर्ता होंगी। उन्होंने इस प्रस्ताव पर खण्ड विकास अधिकारी (BDO) से चर्चा की। उसने इनके प्रयास की सराहना की और सुझाव दिया कि अपनी फार्म के लिए एक आकर्षक नाम रखें जो उन्हें एक अद्वितीय पहचान दे और अन्य प्रतियोगियों से अलग हो। साथ ही उसने (BDO) यह भी सलाह दी कि वे प्रयोग करें एक डिजाइन चिह्न, एक एंकर हो संस्था का ब्रांड, एक आकर्षक नारा वाक्य जो उनके मामलों को शक्तिशाली रूप से संप्रेषित करें।

उन्होंने BDO द्वारा दिए गए सलाह के संकेत को समझा। उन्होंने एक दस्तावेज तैयार किया जिसमें नए उपक्रम शुरू करने से संबंधित बाह्य एवं आंतरिक तत्वों को शामिल किया गया। उन्होंने भीमा कैपिटल लि, से संपर्क किया, अपने प्रस्ताव के साथ ही अपने कार्य की तीन मिनट की संक्षिप्त प्रस्तुति कि जिससे उसकी संभावित वित्त पोषक के रूप में उनकी रुचि बढ़े। इस विचार से अत्यंत प्रभावित हुए, पेशेवर निवेशक प्रारंभिक पूंजी के रूप में निजी पूंजी देने के लिए आय में मामूली हिस्सेदारी पर सहमत हुए।

उपर्युक्त केस का अध्ययन करे एवं निम्न प्रश्नों का उत्तर दें।

उस दस्तावेज को पहचानिए जिसे दोनों बहनों द्वारा संभावित वित्त पोषक की रुचि को बढ़ाने के लिए बनाया गया।

1. आंतरिक परिचालन योजना
2. लिखित प्रस्तुतीकरण बाह्य हित धारकों के लिए
3. (मौखिक पिच डैक) मौखिक रूप से अपनी बात रखना
4. एलिवेटर पिच

Options :

485584153193. 1

485584153194. 2

485584153195. 3

485584153196. 4

Question Number : 535 Question Id : 48558438300 Question Type : MCQ Option Shuffling : No Is Question Mandatory : No Calculator : None Response Time : N.A Think Time : N.A Minimum Instruction Time : 0

Correct Marks : 5 Wrong Marks : 1

Question Key Details :

Key	Value
Comprehension	Comp2

Vanaja and Valsala are twin sisters who hail from the state of Kerala. They observed that children from her village were suffering from deformities due to prolonged use of pesticide contaminated river water and endosulphine sprayed fruits and vegetables. Taking this into cognizance they both plan to start a firm which would promote organic farming in their village. In the beginning, the firm would be an association of two persons who would carry on the business as co-owners, would share profits and losses and would have unlimited liability. In order to avoid conflicts in future they would have a written agreement which will include all the clauses relating to authority and responsibility of members, voting rights and roles and payment of members. The sisters will act as principal and agent for each other and for the firm. They discussed this proposal with the Block Development Officer (BDO). He was very appreciative of their efforts and suggested them to use a catchy slogan which would act as powerful message to communicate their cause. Taking clue from the suggestions made by the BDO, the sisters prepared a document which encompassed the relevant external and internal elements involved in starting a new venture. They approached BHIMA capitals Ltd with their proposal and presented a three-minute executive summary to awaken interest of potential funders. Quite impressed with the idea, the professional investors agreed to provide Private equity seed capital in return for minority shareholding.

Read the case study and answer the following questions.

BHIMA capitals Ltd, the professional investors agreed to provide private equity seed capital in return for minority shareholding. Identify the investors.

1. Angel investors
2. venture capitalist
3. Creditors
4. Debtors

Options :

- 485584153197. 1
- 485584153198. 2
- 485584153199. 3
- 485584153200. 4

Question Number : 535 Question Id : 48558438300 Question Type : MCQ Option Shuffling : No Is Question Mandatory : No Calculator : None Response Time : N.A Think Time : N.A Minimum Instruction Time : 0

Correct Marks : 5 Wrong Marks : 1

Question Key Details :

Key	Value
Comprehension	Comp2

तेनाजा और वेलजाला दो जुड़वा बहनें केरल राज्य से हैं। उन्होंने ध्यान दिया कि उनके गाँव के बच्चे कीटनाशक युक्त नदी जल प्रयोग एवं फलों व सब्जियों पर एंटीसल्फान के छिड़काव के कारण होने वाली विकृति से पीड़ित हैं। उन दोनों ने इस पर ध्यान देते हुए एक फार्म की स्थापना की योजना बनाई जो गाँव में जैविक खेती को बढ़ावा देगी। शुरुआत में फार्म का गठन दो व्यक्तियों द्वारा दिया गया जो व्यवसाय को सह-स्वामित्व रूप में चलाएंगे। उनका लाभ हानि का भाग और असीमित दायित्वाव है। भविष्य के संघर्ष से बचने के लिए वे एक लिखित समझौता करेंगे जिसमें सदस्यों के अधिकार एवं दायित्व, मतदान अधिकार और सदस्यों के भुगतान में भूमि कर शामिल होंगे। दोनों बहनें एक दुसरे की और, फार्म के लिए प्रधान व अधिकर्ता होंगी। उन्होंने इस प्रस्ताव पर खण्ड विकास अधिकारी (BDO) से चर्चा की। उसने इनके प्रयास की सराहना की और सुझाव दिया कि अपनी फार्म के लिए एक आकर्षक नाम रखें जो उन्हें एक अद्वितीय पहचान दे और अन्य प्रतियोगियों से अलग हो। साथ ही उसने (BDO) यह भी सलाह दी कि वे प्रयोग करें एक डिजाइन चिह्न, एक एंकर हो संस्था का ब्रांड, एक आकर्षक नारा वाक्य जो उनके मामलों को शक्तिशाली रूप से संप्रेषित करें।

उन्होंने BDO द्वारा दिए गए सलाह के संकेत को समझा। उन्होंने एक दस्तावेज तैयार किया जिसमें नए उपक्रम शुरू करने से संबंधित बाह्य एवं आंतरिक तत्वों को शामिल किया गया। उन्होंने भीमा कैपिटल लि. से संपर्क किया, अपने प्रस्ताव के साथ ही अपने कार्य की तीन मिनट की संक्षिप्त प्रस्तुति कि जिससे उसकी संभावित वित्त पोषक के रूप में उनकी रुचि बढ़े। इस विचार से अत्यंत प्रभावित हुए, पेशेवर निवेशक प्रारंभिक पूंजी के रूप में निजी पूंजी देने के लिए आय में मामूली हिस्सेदारी पर सहमत हुए।

उपर्युक्त केस का अध्ययन करें एवं निम्न प्रश्नों का उत्तर दें।

भीमा कैपिटल लि., पेशेवर निवेशक, अल्प हिस्सेदारी के बदले में निजी समता आरंभिक पूंजी के रूप में प्रदान करने के लिए सहमत हुए।

1. ऐन्जल निवेशक
2. उद्यम पूंजीदाता
3. लेनदार
4. देनदार

Options :

485584153197. 1
 485584153198. 2
 485584153199. 3
 485584153200. 4

Fine Arts

Group Number :	12
Group Id :	485584893
Group Maximum Duration :	45
Group Minimum Duration :	45
Show Attended Group? :	No
Edit Attended Group? :	No
Break time :	0
Group Marks :	200
Is this Group for Examiner? :	No
Examiner permission :	Cant View
Show Progress Bar? :	No

Fine Arts

Section Id :	4855841035
Section Number :	1
Section type :	Online
Mandatory or Optional :	Mandatory
Number of Questions :	50

Number of Questions to be attempted : 40
Section Marks : 200
Enable Mark as Answered Mark for Review and Clear Response : Yes
Maximum Instruction Time : 0
Sub-Section Number : 1
Sub-Section Id : 4855842930
Question Shuffling Allowed : Yes
Is Section Default? : null

Question Number : 536 Question Id : 48558438351 Question Type : MCQ Option Shuffling : No Is Question Mandatory : No Calculator : None
Response Time : N.A Think Time : N.A Minimum Instruction Time : 0

Correct Marks : 5 Wrong Marks : 1

Question Key Details :

Key	Value
Comprehension	MCQ1

Who composed Gita Govind?

1. Ram Das
2. Keshav Das
3. Bhan Dutta
4. Jayadeva

Options :

485584153401. 1
485584153402. 2
485584153403. 3
485584153404. 4

Question Number : 536 Question Id : 48558438351 Question Type : MCQ Option Shuffling : No Is Question Mandatory : No Calculator : None
Response Time : N.A Think Time : N.A Minimum Instruction Time : 0

Correct Marks : 5 Wrong Marks : 1

Question Key Details :

Key	Value
Comprehension	MCQ1

गीत गोविन्द की रचना किसने की?

1. राम दास
2. केशव दास
3. भान दत्त
4. जयदेव

Options :

485584153401. 1
485584153402. 2
485584153403. 3
485584153404. 4

Question Number : 537 Question Id : 48558438352 Question Type : MCQ Option Shuffling : No Is Question Mandatory : No Calculator : None
Response Time : N.A Think Time : N.A Minimum Instruction Time : 0

Correct Marks : 5 Wrong Marks : 1

Question Key Details :

Key	Value
Comprehension	MCQ1

Which painting bears crucial documentary evidence of its artist and patronage in Ragamala painting?

1. Maru Ragini
2. Raga Megh
3. Tiru Misa
4. Changan Players

Options :

- 485584153405. 1
- 485584153406. 2
- 485584153407. 3
- 485584153408. 4

Question Number : 537 Question Id : 48558438352 Question Type : MCQ Option Shuffling : No Is Question Mandatory : No Calculator : None Response Time : N.A Think Time : N.A Minimum Instruction Time : 0

Correct Marks : 5 Wrong Marks : 1

Question Key Details :

Key	Value
Comprehension	MCQ1

रागमाला चित्र में कौन-से चित्र पर इसके कलाकार और संरक्षण के विषय में निर्णायक अभिलेखित प्रमाण मिलता है?

1. मारु रागिनी
2. राग मेघ
3. तिरु मिसा
4. चौगन प्लेपर्स

Options :

- 485584153405. 1
- 485584153406. 2
- 485584153407. 3
- 485584153408. 4

Question Number : 538 Question Id : 48558438353 Question Type : MCQ Option Shuffling : No Is Question Mandatory : No Calculator : None Response Time : N.A Think Time : N.A Minimum Instruction Time : 0

Correct Marks : 5 Wrong Marks : 1

Question Key Details :

Key	Value
Comprehension	MCQ1

'Ragamala' series of paintings was created at which of the following place?

1. Jodhpur
2. Mewar
3. Amer
4. Bikaner

Options :

- 485584153409. 1
- 485584153410. 2
- 485584153411. 3
- 485584153412. 4

Question Number : 538 Question Id : 48558438353 Question Type : MCQ Option Shuffling : No Is Question Mandatory : No Calculator : None
Response Time : N.A Think Time : N.A Minimum Instruction Time : 0

Correct Marks : 5 Wrong Marks : 1

Question Key Details :

Key	Value
Comprehension	MCQ1

रागमाला चित्रकला श्रृंखला किस स्थान पर बनाई गई?

1. जोधपुर
2. मेवाड़
3. आमेर
4. बीकानेर

Options :

485584153409. 1
485584153410. 2
485584153411. 3
485584153412. 4

Question Number : 539 Question Id : 48558438354 Question Type : MCQ Option Shuffling : No Is Question Mandatory : No Calculator : None
Response Time : N.A Think Time : N.A Minimum Instruction Time : 0

Correct Marks : 5 Wrong Marks : 1

Question Key Details :

Key	Value
Comprehension	MCQ1

In which of the following paintings, a princess playing polo with her companions is depicted?

1. Changan players
2. Krishna playing flute
3. Raga Megha
4. Krishna and Radha in a pavilion

Options :

485584153413. 1
485584153414. 2
485584153415. 3
485584153416. 4

Question Number : 539 Question Id : 48558438354 Question Type : MCQ Option Shuffling : No Is Question Mandatory : No Calculator : None
Response Time : N.A Think Time : N.A Minimum Instruction Time : 0

Correct Marks : 5 Wrong Marks : 1

Question Key Details :

Key	Value
Comprehension	MCQ1

निम्नलिखित में से किस चित्र में एक राजकुमारी को अपने साथियों के साथ पोलो खेलते हुए दिखाया गया है?

1. चौगन प्लेयर्स
2. बांसुरी बजाते कृष्ण
3. राग मेघ
4. मंडप में कृष्ण और राधा

Options :

485584153413. 1
485584153414. 2
485584153415. 3
485584153416. 4

Question Number : 540 Question Id : 48558438355 Question Type : MCQ Option Shuffling : No Is Question Mandatory : No Calculator : None Response Time : N.A Think Time : N.A Minimum Instruction Time : 0

Correct Marks : 5 Wrong Marks : 1

Question Key Details :

Key	Value
Comprehension	MCQ1

Chitrastotra is considered a source book of Indian art, it refers 'art of image making' as:

1. Pratibimb lakshana
2. Pratima lakshana
3. Pramaana lakshana
4. Roopbheda lakshana

Options :

485584153417. 1
485584153418. 2
485584153419. 3
485584153420. 4

Question Number : 540 Question Id : 48558438355 Question Type : MCQ Option Shuffling : No Is Question Mandatory : No Calculator : None Response Time : N.A Think Time : N.A Minimum Instruction Time : 0

Correct Marks : 5 Wrong Marks : 1

Question Key Details :

Key	Value
Comprehension	MCQ1

चित्रसूत्र को भारतीय कला का एक स्रोत / संदर्भ ग्रन्थ माना जाता है। यह 'छवि निर्माण की कला' का निम्नरूप में उल्लेख करता है:

1. प्रतिबिम्ब लक्षण
2. प्रतिमा लक्षण
3. प्रमाण लक्षण
4. रूपभेद लक्षण

Options :

485584153417. 1
485584153418. 2
485584153419. 3

485584153420. 4

Question Number : 541 Question Id : 48558438356 Question Type : MCQ Option Shuffling : No Is Question Mandatory : No Calculator : None
Response Time : N.A Think Time : N.A Minimum Instruction Time : 0

Correct Marks : 5 Wrong Marks : 1

Question Key Details :

Key	Value
Comprehension	MCQ1

Which among the following is a famous painting of Malwa School -

1. Maru Ragini
2. Mother Teresa
3. Dara Shikoh ki baraat
4. Raga Megha

Options :

485584153421. 1
485584153422. 2
485584153423. 3
485584153424. 4

Question Number : 541 Question Id : 48558438356 Question Type : MCQ Option Shuffling : No Is Question Mandatory : No Calculator : None
Response Time : N.A Think Time : N.A Minimum Instruction Time : 0

Correct Marks : 5 Wrong Marks : 1

Question Key Details :

Key	Value
Comprehension	MCQ1

निम्न में मालवा शैली के एक प्रसिद्ध चित्र का नाम क्या है:

1. मारु रागिनी
2. मदर टेरेसा
3. दारा शिकोह की बारात
4. राग मेघ

Options :

485584153421. 1
485584153422. 2
485584153423. 3
485584153424. 4

Question Number : 542 Question Id : 48558438357 Question Type : MCQ Option Shuffling : No Is Question Mandatory : No Calculator : None
Response Time : N.A Think Time : N.A Minimum Instruction Time : 0

Correct Marks : 5 Wrong Marks : 1

Question Key Details :

Key	Value
Comprehension	MCQ1

Which of the following is the famous painting by Nihal Chand?

1. Radha Govind
2. Chaugan Players
3. Bani Thani
4. Krishan Leela

Options :

485584153425. 1
485584153426. 2
485584153427. 3
485584153428. 4

Question Number : 542 Question Id : 48558438357 Question Type : MCQ Option Shuffling : No Is Question Mandatory : No Calculator : None Response Time : N.A Think Time : N.A Minimum Instruction Time : 0

Correct Marks : 5 Wrong Marks : 1

Question Key Details :

Key	Value
Comprehension	MCQ1

निम्नलिखित में से कौन निहालचन्द द्वारा बनाई गई एक प्रसिद्ध चित्रकला है?

1. राधा गोविन्द
2. चौगन प्लेयर्स
3. बनी ठनी
4. कृष्ण लीला

Options :

485584153425. 1
485584153426. 2
485584153427. 3
485584153428. 4

Question Number : 543 Question Id : 48558438358 Question Type : MCQ Option Shuffling : No Is Question Mandatory : No Calculator : None Response Time : N.A Think Time : N.A Minimum Instruction Time : 0

Correct Marks : 5 Wrong Marks : 1

Question Key Details :

Key	Value
Comprehension	MCQ1

Which school of painting during its peak, presented a highly sophisticated blend of Islamic, Hindu and European visual culture and aesthetics?

1. Bengal School of painting
2. Rajasthani School of painting
3. Mughal School of painting
4. Deccani School of painting

Options :

485584153429. 1
485584153430. 2
485584153431. 3
485584153432. 4

Question Number : 543 Question Id : 48558438358 Question Type : MCQ Option Shuffling : No Is Question Mandatory : No Calculator : None Response Time : N.A Think Time : N.A Minimum Instruction Time : 0

Correct Marks : 5 Wrong Marks : 1

Question Key Details :

Key	Value
Comprehension	MCQ1

अपने शिखर के समय में चित्रकला की कौन सी शैली इस्लामी, हिन्दू और यूरोपीय दृश्य संस्कृति और सौन्दर्यशास्त्र का एक उच्च परिष्कृत मिश्रण प्रस्तुत करती है?

1. चित्रकला की बंगाल शैली
2. चित्रकला की राजस्थानी शैली
3. चित्रकला की मुगल शैली
4. चित्रकला की दक्कन शैली

Options :

485584153429. 1

485584153430. 2

485584153431. 3

485584153432. 4

Question Number : 544 Question Id : 48558438359 Question Type : MCQ Option Shuffling : No Is Question Mandatory : No Calculator : None Response Time : N.A Think Time : N.A Minimum Instruction Time : 0

Correct Marks : 5 Wrong Marks : 1

Question Key Details :

Key	Value
Comprehension	MCQ1

Name the famous European painter, who was deeply inspired by the Mughal court paintings.

1. Rembrandt
2. Paul Cezanne
3. Kakuzo Okakura
4. Picasso

Options :

485584153433. 1

485584153434. 2

485584153435. 3

485584153436. 4

Question Number : 544 Question Id : 48558438359 Question Type : MCQ Option Shuffling : No Is Question Mandatory : No Calculator : None Response Time : N.A Think Time : N.A Minimum Instruction Time : 0

Correct Marks : 5 Wrong Marks : 1

Question Key Details :

Key	Value
Comprehension	MCQ1

उस प्रसिद्ध यूरोपीय चित्रकार का नाम बताइए जिसे मुगल दरबार की चित्रकलाओं से गहरी प्रेरणा मिली थी।

1. रेम्ब्रा
2. पॉल सिज़ॉ
3. काकुजो ओकाकुरा
4. पिकासो

Options :

485584153433. 1
485584153434. 2
485584153435. 3
485584153436. 4

Question Number : 545 Question Id : 48558438360 Question Type : MCQ Option Shuffling : No Is Question Mandatory : No Calculator : None Response Time : N.A Think Time : N.A Minimum Instruction Time : 0

Correct Marks : 5 Wrong Marks : 1

Question Key Details :

Key	Value
Comprehension	MCQ1

Who presented the painting 'Zebra' to Mughal Emperor?

1. Nobleman Mir
2. Nobleman Mohammad
3. Nobleman Mir Sayad
4. Nobleman Mir Jafar

Options :

485584153437. 1
485584153438. 2
485584153439. 3
485584153440. 4

Question Number : 545 Question Id : 48558438360 Question Type : MCQ Option Shuffling : No Is Question Mandatory : No Calculator : None Response Time : N.A Think Time : N.A Minimum Instruction Time : 0

Correct Marks : 5 Wrong Marks : 1

Question Key Details :

Key	Value
Comprehension	MCQ1

'जेबरा' नामक चित्र मुगल सम्राट को किसने भेंट किया था?

1. रईस मीर
2. रईस मुहम्मद
3. रईस मीर सेयद
4. रईस मीर जाफर

Options :

485584153437. 1
485584153438. 2
485584153439. 3
485584153440. 4

Question Number : 546 Question Id : 48558438361 Question Type : MCQ Option Shuffling : No Is Question Mandatory : No Calculator : None
Response Time : N.A Think Time : N.A Minimum Instruction Time : 0

Correct Marks : 5 Wrong Marks : 1

Question Key Details :

Key	Value
Comprehension	MCQ1

The painting 'Zebra' brought from Ethiopia was presented to whom?

1. Babar
2. Jahangir
3. Akbar
4. Queen Elizabeth

Options :

485584153441. 1
485584153442. 2
485584153443. 3
485584153444. 4

Question Number : 546 Question Id : 48558438361 Question Type : MCQ Option Shuffling : No Is Question Mandatory : No Calculator : None
Response Time : N.A Think Time : N.A Minimum Instruction Time : 0

Correct Marks : 5 Wrong Marks : 1

Question Key Details :

Key	Value
Comprehension	MCQ1

इथियोपिया से लाया गया चित्र 'जेबरा' किसको भेंट किया गया था ?

1. बाबर
2. जहाँगीर
3. अकबर
4. रानी एलिजाबेथ

Options :

485584153441. 1
485584153442. 2
485584153443. 3
485584153444. 4

Question Number : 547 Question Id : 48558438362 Question Type : MCQ Option Shuffling : No Is Question Mandatory : No Calculator : None
Response Time : N.A Think Time : N.A Minimum Instruction Time : 0

Correct Marks : 5 Wrong Marks : 1

Question Key Details :

Key	Value
Comprehension	MCQ1

Who brought the painting 'Zebra' from Ethiopia?

1. Turks
2. Mughals
3. Mauryans
4. Guptas

Options :

485584153445. 1
485584153446. 2
485584153447. 3
485584153448. 4

Question Number : 547 Question Id : 48558438362 Question Type : MCQ Option Shuffling : No Is Question Mandatory : No Calculator : None Response Time : N.A Think Time : N.A Minimum Instruction Time : 0

Correct Marks : 5 Wrong Marks : 1

Question Key Details :

Key	Value
Comprehension	MCQ1

इथियोपिया से 'जेबरा' चित्र कौन लाया था ?

1. तुर्क
2. मुगल
3. मौर्य
4. गुप्त

Options :

485584153445. 1
485584153446. 2
485584153447. 3
485584153448. 4

Question Number : 548 Question Id : 48558438363 Question Type : MCQ Option Shuffling : No Is Question Mandatory : No Calculator : None Response Time : N.A Think Time : N.A Minimum Instruction Time : 0

Correct Marks : 5 Wrong Marks : 1

Question Key Details :

Key	Value
Comprehension	MCQ1

The word 'Nigaar Khana' is used for -

1. Painting workshop
2. Exhibition hall
3. Powder room
4. Art studio

Options :

485584153449. 1
485584153450. 2
485584153451. 3
485584153452. 4

Question Number : 548 Question Id : 48558438363 Question Type : MCQ Option Shuffling : No Is Question Mandatory : No Calculator : None
Response Time : N.A Think Time : N.A Minimum Instruction Time : 0

Correct Marks : 5 Wrong Marks : 1

Question Key Details :

Key	Value
Comprehension	MCQ1

निम्नर खाना शब्द किसके लिए प्रयोग होता है?

1. चित्रकला कार्यशाला
2. प्रदर्शनी भवन
3. चूर्ण (पाउडर) कक्ष
4. कला स्टूडियो

Options :

485584153449. 1
485584153450. 2
485584153451. 3
485584153452. 4

Question Number : 549 Question Id : 48558438364 Question Type : MCQ Option Shuffling : No Is Question Mandatory : No Calculator : None
Response Time : N.A Think Time : N.A Minimum Instruction Time : 0

Correct Marks : 5 Wrong Marks : 1

Question Key Details :

Key	Value
Comprehension	MCQ1

The Marriage procession of Dara Shikoh' is in the collection of which of the following?

1. National Museum, New Delhi, India
2. National Museum, Mumbai, India
3. National Gallery of Modern Art, New Delhi, India
4. Metropolitan Museum of Art, New York, USA

Options :

485584153453. 1
485584153454. 2
485584153455. 3
485584153456. 4

Question Number : 549 Question Id : 48558438364 Question Type : MCQ Option Shuffling : No Is Question Mandatory : No Calculator : None
Response Time : N.A Think Time : N.A Minimum Instruction Time : 0

Correct Marks : 5 Wrong Marks : 1

Question Key Details :

Key	Value
Comprehension	MCQ1

"द्वारा शिकोह की बारात" नामक चित्र निम्नलिखित में से किसके संग्रह में है?

1. राष्ट्रीय संग्रहालय, नई दिल्ली, भारत
2. राष्ट्रीय संग्रहालय, मुम्बई, भारत
3. राष्ट्रीय आधुनिक कला दीर्घा, नई दिल्ली, भारत
4. मेट्रोपोलिटन कला संग्रहालय, न्यूयॉर्क, यू एस ए

Options :

485584153453. 1
485584153454. 2
485584153455. 3
485584153456. 4

Question Number : 550 Question Id : 48558438365 Question Type : MCQ Option Shuffling : No Is Question Mandatory : No Calculator : None Response Time : N.A Think Time : N.A Minimum Instruction Time : 0

Correct Marks : 5 Wrong Marks : 1

Question Key Details :

Key	Value
Comprehension	MCQ1

A painting titled 'Ragini Pathamsika of Raga Hindola' from Deccan School is now in the collection of which museum ?

1. Mathura Museum, Mathura
2. National Gallery of Modern Art, New Delhi
3. National Museum, New Delhi
4. Art and Craft Museum, New Delhi

Options :

485584153457. 1
485584153458. 2
485584153459. 3
485584153460. 4

Question Number : 550 Question Id : 48558438365 Question Type : MCQ Option Shuffling : No Is Question Mandatory : No Calculator : None Response Time : N.A Think Time : N.A Minimum Instruction Time : 0

Correct Marks : 5 Wrong Marks : 1

Question Key Details :

Key	Value
Comprehension	MCQ1

दक्कन शैली का चित्र 'राम हिंडोला की रागिनी पथसिका' अब किसके संग्रह में है?

1. मधुरा संग्रहालय, मधुरा
2. राष्ट्रीय आधुनिक कला दीर्घा, नई दिल्ली
3. राष्ट्रीय संग्रहालय, नई दिल्ली
4. कला और हस्तशिल्प संग्रहालय, नई दिल्ली

Options :

485584153457. 1
485584153458. 2
485584153459. 3

485584153460. 4

Question Number : 551 Question Id : 48558438366 Question Type : MCQ Option Shuffling : No Is Question Mandatory : No Calculator : None
Response Time : N.A Think Time : N.A Minimum Instruction Time : 0

Correct Marks : 5 Wrong Marks : 1

Question Key Details :

Key	Value
Comprehension	MCQ1

Which of the following paintings represents the Deccani School of Painting?

1. Fairy Tales from Purvapalli
2. Hazrat Nizamuddin Auliya and Amir Khusrav
3. Rama vanquishing the pride of the ocean
4. Balwant Singh looking at a painting with Nainsukh

Options :

- 485584153461. 1
- 485584153462. 2
- 485584153463. 3
- 485584153464. 4

Question Number : 551 Question Id : 48558438366 Question Type : MCQ Option Shuffling : No Is Question Mandatory : No Calculator : None
Response Time : N.A Think Time : N.A Minimum Instruction Time : 0

Correct Marks : 5 Wrong Marks : 1

Question Key Details :

Key	Value
Comprehension	MCQ1

निम्नलिखित में से कौन-सा चित्र दक्कन शैली की चित्रकला का प्रतिनिधित्व करता है?

1. पूर्वपल्ली की परी कथाएँ
2. हजरत निजामुद्दीन औलिया और अमीर खुसरो
3. समुद्र के अहंकार को परास्त करते राम
4. नैनसुख के साथ चित्र को निहारते बलवन्त सिंह

Options :

- 485584153461. 1
- 485584153462. 2
- 485584153463. 3
- 485584153464. 4

Question Number : 552 Question Id : 48558438367 Question Type : MCQ Option Shuffling : No Is Question Mandatory : No Calculator : None
Response Time : N.A Think Time : N.A Minimum Instruction Time : 0

Correct Marks : 5 Wrong Marks : 1

Question Key Details :

Key	Value
Comprehension	MCQ1

Among the Ashta Nayikas or eight heroines, who hastens to meet her beloved braving all hazards?

1. Utkla
2. Svandhinpatika
3. Abisarika
4. Vasaksajja

Options :

485584153465. 1
485584153466. 2
485584153467. 3
485584153468. 4

Question Number : 552 Question Id : 48558438367 Question Type : MCQ Option Shuffling : No Is Question Mandatory : No Calculator : None Response Time : N.A Think Time : N.A Minimum Instruction Time : 0

Correct Marks : 5 Wrong Marks : 1

Question Key Details :

Key	Value
Comprehension	MCQ1

अष्ट नायिकाओं में से निम्नलिखित में से कौन अपने प्रेमी से जल्दी मिलने के लिए सभी विपदाओं का सामना करती है?

1. उत्कला
2. स्वान्धीनपटिका
3. अभिसारिका
4. वासकसज्जा

Options :

485584153465. 1
485584153466. 2
485584153467. 3
485584153468. 4

Question Number : 553 Question Id : 48558438368 Question Type : MCQ Option Shuffling : No Is Question Mandatory : No Calculator : None Response Time : N.A Think Time : N.A Minimum Instruction Time : 0

Correct Marks : 5 Wrong Marks : 1

Question Key Details :

Key	Value
Comprehension	MCQ1

Which of the following schools of painting is known as a mixture of traditional and European style of painting?

1. Bengal School
2. Pahari School
3. Pal School
4. Company School

Options :

485584153469. 1
485584153470. 2
485584153471. 3
485584153472. 4

Question Number : 553 Question Id : 48558438368 Question Type : MCQ Option Shuffling : No Is Question Mandatory : No Calculator : None
Response Time : N.A Think Time : N.A Minimum Instruction Time : 0

Correct Marks : 5 Wrong Marks : 1

Question Key Details :

Key	Value
Comprehension	MCQ1

निम्नलिखित चित्रकला शैलियों में से किसको परम्परागत भारतीय और यूरोपीय चित्रकला शैलियों के मिश्रण के रूप में जाना जाता है?

1. बंगाल शैली
2. पहाड़ी शैली
3. पाल शैली
4. कम्पनी शैली

Options :

485584153469. 1
485584153470. 2
485584153471. 3
485584153472. 4

Question Number : 554 Question Id : 48558438369 Question Type : MCQ Option Shuffling : No Is Question Mandatory : No Calculator : None
Response Time : N.A Think Time : N.A Minimum Instruction Time : 0

Correct Marks : 5 Wrong Marks : 1

Question Key Details :

Key	Value
Comprehension	MCQ1

Name the artist who ideated and manifested 'Swadeshi Values' in Indian art, in the creation of Bengal School of art?

1. Nandalal Bose
2. Jamini Roy
3. Abanindranath Tagore
4. M. R. Chughtai

Options :

485584153473. 1
485584153474. 2
485584153475. 3
485584153476. 4

Question Number : 554 Question Id : 48558438369 Question Type : MCQ Option Shuffling : No Is Question Mandatory : No Calculator : None
Response Time : N.A Think Time : N.A Minimum Instruction Time : 0

Correct Marks : 5 Wrong Marks : 1

Question Key Details :

Key	Value
Comprehension	MCQ1

उस कलाकार का नाम बताइए जिसने कला की बंगाल शैली गढ़ने में भारतीय कला में 'स्वदेशी मूल्यों' के बारे में सोचा और उन्हें प्रतिबिम्बित किया।

1. नन्दलाल बोस
2. जामिनी रॉय
3. अबनीन्द्रनाथ टैगोर
4. एम. आर. चुगताई

Options :

485584153473. 1
485584153474. 2
485584153475. 3
485584153476. 4

Question Number : 555 Question Id : 48558438370 Question Type : MCQ Option Shuffling : No Is Question Mandatory : No Calculator : None Response Time : N.A Think Time : N.A Minimum Instruction Time : 0

Correct Marks : 5 Wrong Marks : 1

Question Key Details :

Key	Value
Comprehension	MCQ1

Which student of Abanindranath Tagore was invited by Rabindranath Tagore to head the painting department of Kala Bhavana?

1. Nandalal Bose
2. Kshatindranath Majumdar
3. Anand Coomaraswami
4. Jamini Roy

Options :

485584153477. 1
485584153478. 2
485584153479. 3
485584153480. 4

Question Number : 555 Question Id : 48558438370 Question Type : MCQ Option Shuffling : No Is Question Mandatory : No Calculator : None Response Time : N.A Think Time : N.A Minimum Instruction Time : 0

Correct Marks : 5 Wrong Marks : 1

Question Key Details :

Key	Value
Comprehension	MCQ1

अबनीन्द्रनाथ टैगोर के किस छात्र को रबीन्द्रनाथ टैगोर द्वारा 'कला भवन' के चित्रकला विभाग का नेतृत्व संभालने के लिए आमंत्रित किया गया था?

1. नंदलाल बोस
2. क्षितिन्द्रनाथ मजूमदार
3. आनन्द कुमारस्वामी
4. जामिनी रॉय

Options :

485584153477. 1

485584153478. 2
485584153479. 3
485584153480. 4

Question Number : 556 Question Id : 48558438371 Question Type : MCQ Option Shuffling : No Is Question Mandatory : No Calculator : None
Response Time : N.A Think Time : N.A Minimum Instruction Time : 0

Correct Marks : 5 Wrong Marks : 1

Question Key Details :

Key	Value
Comprehension	MCQ1

Who among the following is the designer of Red Fort of Delhi?

1. K. Venkatappa
2. Kakuzo Okakura
3. Ustad Mansoor
4. Ustad Ahmed

Options :

485584153481. 1
485584153482. 2
485584153483. 3
485584153484. 4

Question Number : 556 Question Id : 48558438371 Question Type : MCQ Option Shuffling : No Is Question Mandatory : No Calculator : None
Response Time : N.A Think Time : N.A Minimum Instruction Time : 0

Correct Marks : 5 Wrong Marks : 1

Question Key Details :

Key	Value
Comprehension	MCQ1

निम्नलिखित में से कौन दिल्ली के लाल किले के डिजाइनर (अभिकल्पक) हैं?

1. के. वेंकटरप्पा
2. काकुजो ओकाकुरा
3. उस्ताद मन्सूर
4. उस्ताद अहमद

Options :

485584153481. 1
485584153482. 2
485584153483. 3
485584153484. 4

Question Number : 557 Question Id : 48558438372 Question Type : MCQ Option Shuffling : No Is Question Mandatory : No Calculator : None
Response Time : N.A Think Time : N.A Minimum Instruction Time : 0

Correct Marks : 5 Wrong Marks : 1

Question Key Details :

Key	Value
Comprehension	MCQ1

Name the artist who painted 'Radhika'?

1. Kshitindranath Majumdar
2. Abdul Rehman Chughtai
3. Gaganendranath Tagore
4. Raja Ravi Varma

Options :

485584153485. 1
485584153486. 2
485584153487. 3
485584153488. 4

Question Number : 557 Question Id : 48558438372 Question Type : MCQ Option Shuffling : No Is Question Mandatory : No Calculator : None Response Time : N.A Think Time : N.A Minimum Instruction Time : 0

Correct Marks : 5 Wrong Marks : 1

Question Key Details :

Key	Value
Comprehension	MCQ1

राधिका चित्र के चित्रकार का नाम बताइए।

1. क्षितिन्द्रनाथ मजूमदार
2. अब्दुल रहमान चुगताई
3. गगनेन्द्रनाथ टैगोर
4. राजा रवि वर्मा

Options :

485584153485. 1
485584153486. 2
485584153487. 3
485584153488. 4

Question Number : 558 Question Id : 48558438373 Question Type : MCQ Option Shuffling : No Is Question Mandatory : No Calculator : None Response Time : N.A Think Time : N.A Minimum Instruction Time : 0

Correct Marks : 5 Wrong Marks : 1

Question Key Details :

Key	Value
Comprehension	MCQ1

Name the artist who painted a series of 45 paintings based on 'The Arabian Nights'.

1. Kshitindranath Majumdar
2. Raja Ravi Varma
3. Gaganendranath Tagore
4. Abanindranath Tagore

Options :

485584153489. 1
485584153490. 2
485584153491. 3
485584153492. 4

Question Number : 558 Question Id : 48558438373 Question Type : MCQ Option Shuffling : No Is Question Mandatory : No Calculator : None
Response Time : N.A Think Time : N.A Minimum Instruction Time : 0

Correct Marks : 5 Wrong Marks : 1

Question Key Details :

Key	Value
Comprehension	MCQ1

उस कलाकार का नाम बताइए जिसने 'द अरेबियन नाइट्स' पर आधारित 45 चित्रों की एक श्रृंखला चित्रित की।

1. क्षितिन्द्रनाथ मजूमदार
2. राजा रवि वर्मा
3. मगनेन्द्रनाथ टैगोर
4. अब्दनीन्द्रनाथ टैगोर

Options :

485584153489. 1
485584153490. 2
485584153491. 3
485584153492. 4

Question Number : 559 Question Id : 48558438374 Question Type : MCQ Option Shuffling : No Is Question Mandatory : No Calculator : None
Response Time : N.A Think Time : N.A Minimum Instruction Time : 0

Correct Marks : 5 Wrong Marks : 1

Question Key Details :

Key	Value
Comprehension	MCQ1

By which of the following Schools of art, the 'Wash painting technique' was introduced in India?

1. Pahari School
2. Bengal School
3. Rajasthani School
4. Mughal School

Options :

485584153493. 1
485584153494. 2
485584153495. 3
485584153496. 4

Question Number : 559 Question Id : 48558438374 Question Type : MCQ Option Shuffling : No Is Question Mandatory : No Calculator : None
Response Time : N.A Think Time : N.A Minimum Instruction Time : 0

Correct Marks : 5 Wrong Marks : 1

Question Key Details :

Key	Value
Comprehension	MCQ1

निम्नलिखित कला शैलियों में से किसने भारत में 'वाश चित्रकला तकनीक' की शुरुआत की?

1. पहाड़ी शैली
2. बंगाल शैली
3. राजस्थानी शैली
4. मुगल शैली

Options :

485584153493. 1
485584153494. 2
485584153495. 3
485584153496. 4

Question Number : 560 Question Id : 48558438375 Question Type : MCQ Option Shuffling : No Is Question Mandatory : No Calculator : None Response Time : N.A Think Time : N.A Minimum Instruction Time : 0

Correct Marks : 5 Wrong Marks : 1

Question Key Details :

Key	Value
Comprehension	MCQ1

In which year, Gaganendranath Tagore (1869-1938) executed the painting titled 'City in the Night'?

1. 1913
2. 1932
3. 1922
4. 1890

Options :

485584153497. 1
485584153498. 2
485584153499. 3
485584153500. 4

Question Number : 560 Question Id : 48558438375 Question Type : MCQ Option Shuffling : No Is Question Mandatory : No Calculator : None Response Time : N.A Think Time : N.A Minimum Instruction Time : 0

Correct Marks : 5 Wrong Marks : 1

Question Key Details :

Key	Value
Comprehension	MCQ1

गगनेन्द्रनाथ टैगोर (1869-1938) ने किस वर्ष में 'सिटी इन द नाइट' नामक चित्र बनाया था ?

1. 1913
2. 1932
3. 1922
4. 1890

Options :

485584153497. 1
485584153498. 2
485584153499. 3
485584153500. 4

Sub-Section Number :

Sub-Section Id :

4855842931

Question Shuffling Allowed :

No

Is Section Default? :

null

Question Number : 561 Question Id : 48558438376 Question Type : MCQ Option Shuffling : No Is Question Mandatory : No Calculator : None
Response Time : N.A Think Time : N.A Minimum Instruction Time : 0

Correct Marks : 5 Wrong Marks : 1

Question Key Details :

Key	Value
Comprehension	Compl

Observe the image and answer the following question.



The painting is taken from which of the following particular series?

1. Bhagvata Purana
2. Gita Govind
3. Chaurpanchashika
4. Raga Mala

Options :

485584153501. 1

485584153502. 2

485584153503. 3

485584153504. 4

Question Number : 561 Question Id : 48558438376 Question Type : MCQ Option Shuffling : No Is Question Mandatory : No Calculator : None
Response Time : N.A Think Time : N.A Minimum Instruction Time : 0

Correct Marks : 5 Wrong Marks : 1

Question Key Details :

Key	Value
Comprehension	Compl

इस चित्र का अवलोकन कीजिए और उसके बाद दिए गए प्रश्न का उत्तर दीजिए



इस चित्र को निम्नलिखित में से किस विशेष श्रृंखला में से लिया गया है?

1. भागवत पुराण
2. गीत गोविन्द
3. चौरपंचशिका
4. राग माला

Options :

485584153501. 1
485584153502. 2
485584153503. 3
485584153504. 4

Question Number : 562 Question Id : 48558438377 Question Type : MCQ Option Shuffling : No Is Question Mandatory : No Calculator : None Response Time : N.A Think Time : N.A Minimum Instruction Time : 0

Correct Marks : 5 Wrong Marks : 1

Question Key Details :

Key	Value
Comprehension	Compl

Observe the image and answer the following question.



This painting is from which of the following art school?

1. Pahari School
2. Mewar School
3. Malwa School
4. Kangra School

Options :

- 485584153505. 1
- 485584153506. 2
- 485584153507. 3
- 485584153508. 4

Question Number : 562 Question Id : 48558438377 Question Type : MCQ Option Shuffling : No Is Question Mandatory : No Calculator : None Response Time : N.A Think Time : N.A Minimum Instruction Time : 0

Correct Marks : 5 Wrong Marks : 1

Question Key Details :

Key	Value
Comprehension	Comp1

इस चित्र का अवलोकन कीजिए और उसके बाद दिए गए प्रश्न का उत्तर दीजिए



यह चित्र निम्नलिखित में से किस कला शैली की है?

1. पहाड़ी शैली
2. मेवाड़ शैली
3. मालवा शैली
4. कांगड़ा शैली

Options :

- 485584153505. 1
- 485584153506. 2
- 485584153507. 3
- 485584153508. 4

Question Number : 563 Question Id : 48558438378 Question Type : MCQ Option Shuffling : No Is Question Mandatory : No Calculator : None Response Time : N.A Think Time : N.A Minimum Instruction Time : 0

Correct Marks : 5 Wrong Marks : 1

Question Key Details :

Key	Value
Comprehension	Compl

Observe the image and answer the following question.



Among the following, who is the artist of this painting?

1. Ram Das
2. Madho Das
3. Rai Das
4. Keshav Das

Options :

- 485584153509. 1
- 485584153510. 2
- 485584153511. 3
- 485584153512. 4


Question Number : 563 Question Id : 48558438378 Question Type : MCQ Option Shuffling : No Is Question Mandatory : No Calculator : None Response Time : N.A Think Time : N.A Minimum Instruction Time : 0

Correct Marks : 5 Wrong Marks : 1

Question Key Details :

Key	Value
Comprehension	Comp1

इस चित्र का अवलोकन कीजिए और उसके बाद दिए गए प्रश्न का उत्तर दीजिए



निम्नलिखित में से इस चित्र का कलाकार कौन है?

1. राम दास
2. माधो दास
3. राय दास
4. केशव दास

Options :

485584153509. 1
485584153510. 2
485584153511. 3
485584153512. 4

Question Number : 564 Question Id : 48558438379 Question Type : MCQ Option Shuffling : No Is Question Mandatory : No Calculator : None Response Time : N.A Think Time : N.A Minimum Instruction Time : 0

Correct Marks : 5 Wrong Marks : 1

Question Key Details :

Key	Value
Comprehension	Compl

Observe the image and answer the following question.



The painting is in the collection of which of the following museums?

1. National Gallery of Modern art, New Delhi
2. Louvre Museum, Paris
3. National Museum, London
4. National Museum, New Delhi

Options :

- 485584153513. 1
- 485584153514. 2
- 485584153515. 3
- 485584153516. 4

Question Number : 564 Question Id : 48558438379 Question Type : MCQ Option Shuffling : No Is Question Mandatory : No Calculator : None Response Time : N.A Think Time : N.A Minimum Instruction Time : 0

Correct Marks : 5 Wrong Marks : 1

Question Key Details :

Key	Value
Comprehension	Comp1

इस चित्र का अवलोकन कीजिए और उसके बाद दिए गए प्रश्न का उत्तर दीजिए



यह चित्र निम्नलिखित संग्रहालयों में से किसके संग्रह में है?

1. राष्ट्रीय आधुनिक कला दीर्घा, नई दिल्ली
2. लुव्र संग्रहालय, पेरिस
3. राष्ट्रीय संग्रहालय, लन्दन
4. राष्ट्रीय संग्रहालय, नई दिल्ली

Options :

485584153513. 1
485584153514. 2
485584153515. 3
485584153516. 4

Question Number : 565 Question Id : 48558438380 Question Type : MCQ Option Shuffling : No Is Question Mandatory : No Calculator : None Response Time : N.A Think Time : N.A Minimum Instruction Time : 0

Correct Marks : 5 Wrong Marks : 1

Question Key Details :

Key	Value
Comprehension	Comp1

Observe the image and answer the following question.



The painting was made in which year?

- 1. 1590
- 2. 1600
- 3. 1680
- 4. 1700

Options :

- 485584153517. 1
- 485584153518. 2
- 485584153519. 3
- 485584153520. 4

Question Number : 565 Question Id : 48558438380 Question Type : MCQ Option Shuffling : No Is Question Mandatory : No Calculator : None Response Time : N.A Think Time : N.A Minimum Instruction Time : 0

Correct Marks : 5 Wrong Marks : 1

Question Key Details :

Key	Value
Comprehension	Compl

इस चित्र का अवलोकन कीजिए और उसके बाद दिए गए प्रश्न का उत्तर दीजिए



यह चित्र किस वर्ष में बनाया गया था ?

1. 1590
2. 1600
3. 1680
4. 1700

Options :

485584153517. 1
485584153518. 2
485584153519. 3
485584153520. 4

Sub-Section Number :

3

Sub-Section Id :

4855842932

Question Shuffling Allowed :

No

Is Section Default? :

null

Question Number : 566 Question Id : 48558438381 Question Type : MCQ Option Shuffling : No Is Question Mandatory : No Calculator : None Response Time : N.A Think Time : N.A Minimum Instruction Time : 0

Correct Marks : 5 Wrong Marks : 1

Question Key Details :

Key	Value
Comprehension	Comp2

Observe the image and answer the following question.



This painting belongs to which of the following School?

1. Mewar School
2. Bengal School
3. Pahari School
4. Kangra School

Options :

- 485584153521. 1
- 485584153522. 2
- 485584153523. 3
- 485584153524. 4

Question Number : 566 Question Id : 48558438381 Question Type : MCQ Option Shuffling : No Is Question Mandatory : No Calculator : None Response Time : N.A Think Time : N.A Minimum Instruction Time : 0

Correct Marks : 5 Wrong Marks : 1

Question Key Details :

Key	Value
Comprehension	Comp2

इस चित्र का अवलोकन कीजिए और उसके बाद दिए गए प्रश्न का उत्तर दीजिए



यह चित्र निम्नलिखित में से किस कला शैली का है?

1. मेवाड़ शैली
2. बंगाल शैली
3. पहाड़ी शैली
4. कांगड़ा शैली

Options :

485584153521. 1
485584153522. 2
485584153523. 3
485584153524. 4

Question Number : 567 Question Id : 48558438382 Question Type : MCQ Option Shuffling : No Is Question Mandatory : No Calculator : None Response Time : N.A Think Time : N.A Minimum Instruction Time : 0

Correct Marks : 5 Wrong Marks : 1

Question Key Details :

Key	Value
Comprehension	Comp2

Observe the image and answer the following question.



The painting is in the collection of which museum?

1. Museum and Art Gallery, Chandigarh
2. National Museum, New Delhi
3. National Gallery of Modern Art, New Delhi
4. National Museum, London

Options :

- 485584153525. 1
- 485584153526. 2
- 485584153527. 3
- 485584153528. 4

Question Number : 567 Question Id : 48558438382 Question Type : MCQ Option Shuffling : No Is Question Mandatory : No Calculator : None Response Time : N.A Think Time : N.A Minimum Instruction Time : 0

Correct Marks : 5 Wrong Marks : 1

Question Key Details :

Key	Value
Comprehension	Comp2

इस चित्र का अवलोकन कीजिए और उसके बाद दिए गए प्रश्न का उत्तर दीजिए



यह चित्र किस संग्रहालय के संग्रह में है?

1. संग्रहालय और कला दीर्घा, चंडीगढ़
2. राष्ट्रीय संग्रहालय, नई दिल्ली
3. राष्ट्रीय आधुनिक कला दीर्घा, नई दिल्ली
4. राष्ट्रीय संग्रहालय, लन्दन

Options :

485584153525. 1
485584153526. 2
485584153527. 3
485584153528. 4

Question Number : 568 Question Id : 48558438383 Question Type : MCQ Option Shuffling : No Is Question Mandatory : No Calculator : None Response Time : N.A Think Time : N.A Minimum Instruction Time : 0

Correct Marks : 5 Wrong Marks : 1

Question Key Details :

Key	Value
Comprehension	Comp2

Observe the image and answer the following question.



Which among the following is the title of this painting?

1. Abhisarika Nayika
2. Radha
3. Gopi
4. Savandheen Patika

Options :

485584153529. 1
485584153530. 2
485584153531. 3
485584153532. 4

Question Number : 568 Question Id : 48558438383 Question Type : MCQ Option Shuffling : No Is Question Mandatory : No Calculator : None Response Time : N.A Think Time : N.A Minimum Instruction Time : 0

Correct Marks : 5 Wrong Marks : 1

Question Key Details :

Key	Value
Comprehension	Comp2

इस चित्र का अवलोकन कीजिए और उसके बाद दिए गए प्रश्न का उत्तर दीजिए



निम्नलिखित में से इस चित्र का शीर्षक क्या है?

1. अभिसारिका नायिका
2. राधा
3. गोपी
4. सवान्धीन पतिका

Options :

485584153529. 1
485584153530. 2
485584153531. 3
485584153532. 4

Question Number : 569 Question Id : 48558438384 Question Type : MCQ Option Shuffling : No Is Question Mandatory : No Calculator : None Response Time : N.A Think Time : N.A Minimum Instruction Time : 0

Correct Marks : 5 Wrong Marks : 1

Question Key Details :

Key	Value
Comprehension	Comp2

Observe the image and answer the following question.



The painting was made during which time period?

1. 1910-20
2. 1850-60
3. 1810-20
4. 1750-60

Options :

- 485584153533. 1
- 485584153534. 2
- 485584153535. 3
- 485584153536. 4

Question Number : 569 Question Id : 48558438384 Question Type : MCQ Option Shuffling : No Is Question Mandatory : No Calculator : None Response Time : N.A Think Time : N.A Minimum Instruction Time : 0

Correct Marks : 5 Wrong Marks : 1

Question Key Details :

Key	Value
Comprehension	Comp2

इस चित्र का अवलोकन कीजिए और उसके बाद दिए गए प्रश्न का उत्तर दीजिए



यह चित्र किस समय अवधि में बनाया गया था ?

1. 1910-20
2. 1850-60
3. 1810-20
4. 1750-60

Options :

- 485584153533. 1
- 485584153534. 2
- 485584153535. 3
- 485584153536. 4

Question Number : 570 Question Id : 48558438385 Question Type : MCQ Option Shuffling : No Is Question Mandatory : No Calculator : None Response Time : N.A Think Time : N.A Minimum Instruction Time : 0

Correct Marks : 5 Wrong Marks : 1

Question Key Details :

Key	Value
Comprehension	Comp2

Observe the image and answer the following question.



In this image, the woman is expressing which of the following emotions?

1. Waiting for someone in sad mood
2. Dispositions and emotive state
3. Depressive and sad state
4. In love and joyful state

Options :

- 485584153537. 1
- 485584153538. 2
- 485584153539. 3
- 485584153540. 4

Question Number : 570 Question Id : 48558438385 Question Type : MCQ Option Shuffling : No Is Question Mandatory : No Calculator : None Response Time : N.A Think Time : N.A Minimum Instruction Time : 0

Correct Marks : 5 Wrong Marks : 1

Question Key Details :

Key	Value
Comprehension	Comp2

इस चित्र का अवलोकन कीजिए और उसके बाद दिए गए प्रश्न का उत्तर दीजिए



इस चित्र में महिला किन भावनाओं को अभिव्यक्त कर रही है?

1. दुःखी मन-स्थिति में किसी की प्रतिक्रिया
2. स्ववृत्ति और भावनात्मक अवस्था
3. अवसादग्रस्त और दुःखी अवस्था
4. प्रेममय और आनन्दपूर्ण अवस्था

Options :

485584153537. 1

485584153538. 2

485584153539. 3

485584153540. 4

Sub-Section Number :

4

Sub-Section Id :

4855842933

Question Shuffling Allowed :

Yes

Is Section Default? :

null

Question Number : 571 Question Id : 48558438386 Question Type : MCQ Option Shuffling : No Is Question Mandatory : No Calculator : None Response Time : N.A Think Time : N.A Minimum Instruction Time : 0

Correct Marks : 5 Wrong Marks : 1

Question Key Details :

Key	Value
Comprehension	MCQ2

According to the time period, arrange Sub Schools of Art in reverse order.

- A. Goleonda School
- B. Guler School
- C. Bijapur School
- D. Ahunadnagar School
- E. Basohli School

Choose the correct answer from the options given below:

- 1. B, E, A, C, D
- 2. B, A, C, E, D
- 3. A, B, C, D, E
- 4. E, D, C, B, A

Options :

- 485584153541. 1
- 485584153542. 2
- 485584153543. 3
- 485584153544. 4

Question Number : 571 Question Id : 48558438386 Question Type : MCQ Option Shuffling : No Is Question Mandatory : No Calculator : None Response Time : N.A Think Time : N.A Minimum Instruction Time : 0

Correct Marks : 5 Wrong Marks : 1

Question Key Details :

Key	Value
Comprehension	MCQ2

समय अवधि के अनुसार कला की उपशैलियों को उल्टे क्रम में व्यवस्थित कीजिए।

- A. गोलकुन्डा शैली
- B. गुलेर शैली
- C. बीजापुर शैली
- D. अहमदनगर शैली
- E. बसोहली शैली

नीचे दिए गे विकल्पों में से सही उत्तर का चयन कीजिए-

- 1. B, E, A, C, D
- 2. B, A, C, E, D
- 3. A, B, C, D, E
- 4. E, D, C, B, A

Options :

- 485584153541. 1
- 485584153542. 2
- 485584153543. 3
- 485584153544. 4

Question Number : 572 Question Id : 48558438387 Question Type : MCQ Option Shuffling : No Is Question Mandatory : No Calculator : None Response Time : N.A Think Time : N.A Minimum Instruction Time : 0

Correct Marks : 5 Wrong Marks : 1

Question Key Details :

Key	Value
Comprehension	MCQ2

Arrange the architectural elements of a Stupa in chronological order from top to bottom.

- A. Medhi
- B. Harmika
- C. Vedika
- D. Chhatra
- E. Anda

Choose the correct answer from the options given below:

- 1. A, B, C, D, E
- 2. E, C, B, D, A
- 3. D, C, B, E, A
- 4. D, B, E, A, C

Options :

- 485584153545. 1
- 485584153546. 2
- 485584153547. 3
- 485584153548. 4

Question Number : 572 Question Id : 48558438387 Question Type : MCQ Option Shuffling : No Is Question Mandatory : No Calculator : None Response Time : N.A Think Time : N.A Minimum Instruction Time : 0

Correct Marks : 5 Wrong Marks : 1

Question Key Details :

Key	Value
Comprehension	MCQ2

किसी स्तूप के वास्तुशिल्पीय तत्वों को उपर से नीचे के क्रम में लगाइए।

- A. मेधी
- B. हर्मिका
- C. वेदिका
- D. छतरी
- E. अन्डा

नीचे दिए गे विकल्पों में से सही उत्तर का चयन कीजिए:

- 1. A, B, C, D, E
- 2. E, C, B, D, A
- 3. D, C, B, E, A
- 4. D, B, E, A, C

Options :

- 485584153545. 1
- 485584153546. 2
- 485584153547. 3
- 485584153548. 4

Question Number : 573 Question Id : 48558438388 Question Type : MCQ Option Shuffling : No Is Question Mandatory : No Calculator : None Response Time : N.A Think Time : N.A Minimum Instruction Time : 0

Correct Marks : 5 Wrong Marks : 1

Question Key Details :

Key	Value
Comprehension	MCQ2

Arrange the paintings according to their time period of execution ?

- A. Krishna playing Holi with Gopis
- B. The throne of prosperity
- C. Krishna steals butter
- D. Rama and Sita in the forest
- E. Dancing before Muhammad

Choose the correct answer from the options given below:

- 1. A, B, C, D, E
- 2. B, E, C, D, A
- 3. A, C, E, B, D
- 4. D, E, A, B, C

Options :

- 485584153549. 1
- 485584153550. 2
- 485584153551. 3
- 485584153552. 4

Question Number : 573 Question Id : 48558438388 Question Type : MCQ Option Shuffling : No Is Question Mandatory : No Calculator : None Response Time : N.A Think Time : N.A Minimum Instruction Time : 0

Correct Marks : 5 Wrong Marks : 1

Question Key Details :

Key	Value
Comprehension	MCQ2

निम्नलिखित चित्रों को उनके बनाने के काल के अनुसार क्रमबद्ध कीजिए।

- A. कृष्ण गोपियों के साथ होली खेलते हुए
- B. द थ्रोन ऑफ प्रोस्पेरिटी (समृद्धि का सिंहासन)
- C. मक्खन चुराते कृष्ण
- D. राम और सीता वन में
- E. मुहम्मद के समक्ष नृत्य

नीचे दिए गे विकल्पों में से सही उत्तर का चयन कीजिए:

- 1. A, B, C, D, E
- 2. B, E, C, D, A
- 3. A, C, E, B, D
- 4. D, E, A, B, C

Options :

- 485584153549. 1
- 485584153550. 2
- 485584153551. 3
- 485584153552. 4

Question Number : 574 Question Id : 48558438389 Question Type : MCQ Option Shuffling : No Is Question Mandatory : No Calculator : None Response Time : N.A Think Time : N.A Minimum Instruction Time : 0

Correct Marks : 5 Wrong Marks : 1

Question Key Details :

Key	Value
Comprehension	MCQ2

Arrange the architectural element of a temple in chronological order from top to bottom.

- A. Shikhara
- B. Pitha
- C. Kalasha
- D. Garbhagriha
- E. Amalaka

Choose the correct answer from the options given below:

- 1. A, B, C, D, E
- 2. C, E, A, D, B
- 3. E, D, C, B, A
- 4. B, D, A, E, C

Options :

- 485584153553. 1
- 485584153554. 2
- 485584153555. 3
- 485584153556. 4

Question Number : 574 Question Id : 48558438389 Question Type : MCQ Option Shuffling : No Is Question Mandatory : No Calculator : None Response Time : N.A Think Time : N.A Minimum Instruction Time : 0

Correct Marks : 5 Wrong Marks : 1

Question Key Details :

Key	Value
Comprehension	MCQ2

मन्दिर के वास्तुशिल्पीय तत्वों को उपर से नीचे के क्रम में व्यवस्थित कीजिए।

- A. शिखर
- B. पीठ
- C. कलश
- D. गर्भगृह
- E. आमलक

नीचे दिए गए विकल्पों में से सही उत्तर का चयन कीजिए-

- 1. A, B, C, D, E
- 2. C, E, A, D, B
- 3. E, D, C, B, A
- 4. B, D, A, E, C

Options :

- 485584153553. 1
- 485584153554. 2
- 485584153555. 3
- 485584153556. 4

Question Number : 575 Question Id : 48558438390 Question Type : MCQ Option Shuffling : No Is Question Mandatory : No Calculator : None Response Time : N.A Think Time : N.A Minimum Instruction Time : 0

Correct Marks : 5 Wrong Marks : 1

Question Key Details :

Key	Value
Comprehension	MCQ2

Choose the correct process of 'Bronze Casting'

- A. Coating of figure with clay and dry
- B. Filled with molten metal
- C. Took the original shape
- D. Carving of wax
- E. Wax is heated and drained out

Choose the correct answer from the options given below:

- 1. A, D, E, B, C
- 2. D, C, A, E, B
- 3. D, A, E, B, C
- 4. A, B, C, D, E

Options :

- 485584153557. 1
- 485584153558. 2
- 485584153559. 3
- 485584153560. 4

Question Number : 575 Question Id : 48558438390 Question Type : MCQ Option Shuffling : No Is Question Mandatory : No Calculator : None Response Time : N.A Think Time : N.A Minimum Instruction Time : 0

Correct Marks : 5 Wrong Marks : 1

Question Key Details :

Key	Value
Comprehension	MCQ2

'कांसे की ढलाई' की प्रक्रिया का सही क्रम क्या है?

- A. आकृति पर मिट्टी का लेप चढ़ाना और सुखाना
- B. पिघली धातु से भरना
- C. मूल आकृति प्राप्त करना
- D. मोम से नक्काशी/उत्कीर्णन
- E. मोम को गर्म करके पिघला कर निकाल देना

नीचे दिए गे विकल्पों में से सही उत्तर का चयन कीजिए:

- 1. A, D, E, B, C
- 2. D, C, A, E, B
- 3. D, A, E, B, C
- 4. A, B, C, D, E

Options :

- 485584153557. 1
- 485584153558. 2
- 485584153559. 3
- 485584153560. 4

Question Number : 576 Question Id : 48558438391 Question Type : MCQ Option Shuffling : No Is Question Mandatory : No Calculator : None Response Time : N.A Think Time : N.A Minimum Instruction Time : 0

Correct Marks : 5 Wrong Marks : 1

Question Key Details :

Key	Value
Comprehension	MCQ2

The 'Santhal Family' sculpture is made with which of the following materials?

- A. Ceramic shell
- B. Cement mixed with pebbles
- C. Metal sheet
- D. Metal armature
- E. Clay and chaff

Choose the correct answer from the options given below:

- 1. A and E only
- 2. B and C only
- 3. B and D only
- 4. D and E only

Options :

- 485584153561. 1
- 485584153562. 2
- 485584153563. 3
- 485584153564. 4

Question Number : 576 Question Id : 48558438391 Question Type : MCQ Option Shuffling : No Is Question Mandatory : No Calculator : None Response Time : N.A Think Time : N.A Minimum Instruction Time : 0

Correct Marks : 5 Wrong Marks : 1

Question Key Details :

Key	Value
Comprehension	MCQ2

'संथाल परिवार' नामक मूर्तिशिल्प को निम्नलिखित में से किस सामग्री से बनाया गया है?

- A. सिरेमिक कबच छिलके से
- B. पत्थरों के टुकड़ों और सीमेन्ट का मिश्रण
- C. धातु की चादर
- D. धातु का ढाँचा
- E. मिट्टी और भूसा

नीचे दिए गे विकल्पों में से सही उत्तर का चयन कीजिए:

- 1. केवल A और E
- 2. केवल B और C
- 3. केवल B और D
- 4. केवल D और E

Options :

- 485584153561. 1
- 485584153562. 2
- 485584153563. 3
- 485584153564. 4

Question Number : 577 Question Id : 48558438392 Question Type : MCQ Option Shuffling : No Is Question Mandatory : No Calculator : None Response Time : N.A Think Time : N.A Minimum Instruction Time : 0

Correct Marks : 5 Wrong Marks : 1

Question Key Details :

Key	Value
Comprehension	MCQ2

Identify the open air 'large scale' modernist sculptures in India.

- A. Triumph of labour
- B. Ganesha
- C. Cries un-heard
- D. Santal family
- E. Vanshri

Choose the correct answer from the options given below:

- 1. A and D only
- 2. B and D only
- 3. B and E only
- 4. A and C only

Options :

- 485584153565. 1
- 485584153566. 2
- 485584153567. 3
- 485584153568. 4

Question Number : 577 Question Id : 48558438392 Question Type : MCQ Option Shuffling : No Is Question Mandatory : No Calculator : None Response Time : N.A Think Time : N.A Minimum Instruction Time : 0

Correct Marks : 5 Wrong Marks : 1

Question Key Details :

Key	Value
Comprehension	MCQ2

भारत में खुले वातावरण में स्थापित 'बड़े पैमाने का' आधुनिकतावादी मूर्तिशिल्प कौन-सा है ?

- A. ट्रायम्फ आफ लैब्रर (श्रम की विजय)
- B. गणेश
- C. क्राइज अन-हर्ड (अनसुना विलाप)
- D. सन्थाल परिवार
- E. वनश्री

नीचे दिए गे विकल्पों में से सही उत्तर का चयन कीजिए:

- 1. केवल A और D
- 2. केवल B और D
- 3. केवल B और E
- 4. केवल A और C

Options :

- 485584153565. 1
- 485584153566. 2
- 485584153567. 3
- 485584153568. 4

Question Number : 578 Question Id : 48558438393 Question Type : MCQ Option Shuffling : No Is Question Mandatory : No Calculator : None Response Time : N.A Think Time : N.A Minimum Instruction Time : 0

Correct Marks : 5 Wrong Marks : 1

Question Key Details :

Key	Value
Comprehension	MCQ2

Which of the following painting styles are from Bihar?

- A. Mithila
- B. Pithoro
- C. Sawara
- D. Madhubani
- E. Pichhawai

Choose the correct answer from the options given below:

- 1. B and D only
- 2. A and D only
- 3. C and E only
- 4. A and C only

Options :

- 485584153569. 1
- 485584153570. 2
- 485584153571. 3
- 485584153572. 4

Question Number : 578 Question Id : 48558438393 Question Type : MCQ Option Shuffling : No Is Question Mandatory : No Calculator : None Response Time : N.A Think Time : N.A Minimum Instruction Time : 0

Correct Marks : 5 Wrong Marks : 1

Question Key Details :

Key	Value
Comprehension	MCQ2

निम्नलिखित में से कौन सी चित्रकलाएँ शैली बिहार से है?

- A. मिथिला
- B. पिथोरो
- C. सवर
- D. मधुबनी
- E. पिछवाई

नीचे दिए गे विकल्पों में से सही उत्तर का चयन कीजिए:

- 1. केवल B और D
- 2. केवल A और D
- 3. केवल C और E
- 4. केवल A और C

Options :

- 485584153569. 1
- 485584153570. 2
- 485584153571. 3
- 485584153572. 4

Question Number : 579 Question Id : 48558438394 Question Type : MCQ Option Shuffling : No Is Question Mandatory : No Calculator : None Response Time : N.A Think Time : N.A Minimum Instruction Time : 0

Correct Marks : 5 Wrong Marks : 1

Question Key Details :

Key	Value
Comprehension	MCQ2

The sculpture 'Cries Un-Heard' is made with which of the following materials and styles ?

- A. Oxidised copper
- B. Uses abstraction
- C. Flat rhythmical planes in bronze
- D. Drum like figures
- E. Smiling like face

Choose the correct answer from the options given below:

- 1. A and C only
- 2. B and C only
- 3. B and E only
- 4. C and E only

Options :

- 485584153573. 1
- 485584153574. 2
- 485584153575. 3
- 485584153576. 4

Question Number : 579 Question Id : 48558438394 Question Type : MCQ Option Shuffling : No Is Question Mandatory : No Calculator : None Response Time : N.A Think Time : N.A Minimum Instruction Time : 0

Correct Marks : 5 Wrong Marks : 1

Question Key Details :

Key	Value
Comprehension	MCQ2

'क्राइस अनहर्ड' नामक मूर्तिशिल्प निम्नलिखित में से किस सामग्री और शैली से बना है?

- A. आक्सीकृत ताँबा
- B. अमूर्तन का उपयोग
- C. काँसे के चपटे लयात्मक फलकों/तलों का प्रयोग
- D. ड्रम जैसी आकृतियों का प्रयोग
- E. मुस्कराहट वाला चेहरा

नीचे दिए गे विकल्पों में से सही उत्तर का चयन कीजिए:

- 1. केवल A और C
- 2. केवल B और C
- 3. केवल B और E
- 4. केवल C और E

Options :

- 485584153573. 1
- 485584153574. 2
- 485584153575. 3
- 485584153576. 4

Question Number : 580 Question Id : 48558438395 Question Type : MCQ Option Shuffling : No Is Question Mandatory : No Calculator : None Response Time : N.A Think Time : N.A Minimum Instruction Time : 0

Correct Marks : 5 Wrong Marks : 1

Question Key Details :

Key	Value
Comprehension	MCQ2

Pithora painting belongs to which of the following States ?

- A. Rajasthan
- B. Maharashtra
- C. Gujarat
- D. Odisha
- E. Madhya Pradesh

Choose the correct answer from the options given below:

- 1. B and C only
- 2. A and B only
- 3. B and D only
- 4. C and E only

Options :

- 485584153577. 1
- 485584153578. 2
- 485584153579. 3
- 485584153580. 4

Question Number : 580 Question Id : 48558438395 Question Type : MCQ Option Shuffling : No Is Question Mandatory : No Calculator : None Response Time : N.A Think Time : N.A Minimum Instruction Time : 0

Correct Marks : 5 Wrong Marks : 1

Question Key Details :

Key	Value
Comprehension	MCQ2

पिथोरा चित्रकला निम्नलिखित में से किन राज्यों में होती है?

- A. राजस्थान
- B. महाराष्ट्र
- C. गुजरात
- D. ओडिशा
- E. मध्य प्रदेश

नीचे दिए गे विकल्पों में से सही उत्तर का चयन कीजिए:

- 1. केवल B और C
- 2. केवल A और B
- 3. केवल B और D
- 4. केवल C और E

Options :

- 485584153577. 1
- 485584153578. 2
- 485584153579. 3
- 485584153580. 4

Question Number : 581 Question Id : 48558438396 Question Type : MCQ Option Shuffling : No Is Question Mandatory : No Calculator : None Response Time : N.A Think Time : N.A Minimum Instruction Time : 0

Correct Marks : 5 Wrong Marks : 1

Question Key Details :

Key	Value
Comprehension	MCQ2

Match List I with List II

LIST I		LIST II	
A.	Roopbheda	I.	Artistic way of using art material
B.	Varnikabhanga	II.	Influence of grace and outer appearance
C.	Lavanya yojana	III.	Resemblance
D.	Sadrishya	IV.	Looks and appearance

Choose the correct answer from the options given below:

1. A-IV, B-I, C-II, D-III
2. A-IV, B-III, C-II, D-I
3. A-III, B-I, C-IV, D-II
4. A-II, B-IV, C-III, D-I

Options :

485584153581. 1
485584153582. 2
485584153583. 3
485584153584. 4

Question Number : 581 Question Id : 48558438396 Question Type : MCQ Option Shuffling : No Is Question Mandatory : No Calculator : None Response Time : N.A Think Time : N.A Minimum Instruction Time : 0

Correct Marks : 5 Wrong Marks : 1

Question Key Details :

Key	Value
Comprehension	MCQ2

सूची I के साथ सूची II का मिलान कीजिए

सूची I		सूची II	
A.	रूपभेद	I.	कला सामग्री का उपयोग करने का कलात्मक ढंग
B.	वर्णिकाभंग	II.	शान्ति और बाह्यकृति
C.	लावण्य योजना	III.	साम्य
D.	सदृश्य	IV.	सुरत और रूपरंग

नीचे दिए गए विकल्पों में से सही उत्तर का चयन कीजिए-

1. A-IV, B-I, C-II, D-III
2. A-IV, B-III, C-II, D-I
3. A-III, B-I, C-IV, D-II
4. A-II, B-IV, C-III, D-I

Options :

485584153581. 1
485584153582. 2
485584153583. 3
485584153584. 4

Question Number : 582 Question Id : 48558438397 Question Type : MCQ Option Shuffling : No Is Question Mandatory : No Calculator : None Response Time : N.A Think Time : N.A Minimum Instruction Time : 0

Correct Marks : 5 Wrong Marks : 1

Question Key Details :

Key	Value
Comprehension	MCQ2

Match List I with List II

LIST I		LIST II	
A.	Krishna playing flute	I.	Jodhpur School
B.	Dhola and Maru	II.	Kishangarh School
C.	The hour of Godhuli	III.	Bikaner School
D.	Krishna and Radha in a pavilion	IV.	Jajpur School

Choose the correct answer from the options given below:

1. A-I, B-III, C-II, D-IV
2. A-II, B-IV, C-III, D-I
3. A-III, B-I, C-IV, D-II
4. A-IV, B-II, C-I, D-III

Options :

485584153585. 1
485584153586. 2
485584153587. 3
485584153588. 4

Question Number : 582 Question Id : 48558438397 Question Type : MCQ Option Shuffling : No Is Question Mandatory : No Calculator : None
Response Time : N.A Think Time : N.A Minimum Instruction Time : 0

Correct Marks : 5 Wrong Marks : 1

Question Key Details :

Key	Value
Comprehension	MCQ2

सूची I के साथ सूची II का मिलान कीजिए

सूची I		सूची II	
A.	बोंसुरी बजाते कृष्ण	I.	जोधपुर शैली
B.	दोला और मारु	II.	किसानगढ़ शैली
C.	गोधुली विला	III.	बिकानेर शैली
D.	मंउप में कृष्ण एवं राधा	IV.	जयपुर शैली

नीचे दिए गए विकल्पों में से सही उत्तर का चयन कीजिए-

1. A-I, B-III, C-II, D-IV
2. A-II, B-IV, C-III, D-I
3. A-III, B-I, C-IV, D-II
4. A-IV, B-II, C-I, D-III

Options :

485584153585. 1
485584153586. 2
485584153587. 3
485584153588. 4

Question Number : 583 Question Id : 48558438398 Question Type : MCQ Option Shuffling : No Is Question Mandatory : No Calculator : None
Response Time : N.A Think Time : N.A Minimum Instruction Time : 0

Correct Marks : 5 Wrong Marks : 1

Question Key Details :

Key	Value
Comprehension	MCQ2

Match List I with List II

LIST I		LIST II	
A.	Krishna as envoy	I.	K. Venkatappa
B.	Rama's marriage	II.	Nandalal Bose
C.	Camels	III.	Raja Ravi Varma
D.	Tiller of the soil	IV.	Amrita Sher-Gil

Choose the correct answer from the options given below:

1. A-I, B-II, C-III, D-IV
2. A-III, B-I, C-IV, D-II
3. A-II, B-IV, C-I, D-III
4. A-IV, B-III, C-II, D-I

Options :

485584153589. 1
485584153590. 2
485584153591. 3
485584153592. 4

Question Number : 583 Question Id : 48558438398 Question Type : MCQ Option Shuffling : No Is Question Mandatory : No Calculator : None
Response Time : N.A Think Time : N.A Minimum Instruction Time : 0

Correct Marks : 5 Wrong Marks : 1

Question Key Details :

Key	Value
Comprehension	MCQ2

सूची I के साथ सूची II का मिलान कीजिए

सूची I		सूची II	
A.	कृष्णा एज एनवाय (दूत के रूप में कृष्णा)	I.	के. वेंकटप्पा
B.	रामाज मैरिज (राम का विवाह)	II.	नन्दलाल बोस
C.	कैमेलस (ऊँट)	III.	राजा रवि वर्मा
D.	टिलर ऑफ द साइल (जमीन जोतने वाले)	IV.	अमृता शेरगील

नीचे दिए गए विकल्पों में से सही उत्तर का चयन कीजिए-

1. A-I, B-II, C-III, D-IV
2. A-III, B-I, C-IV, D-II
3. A-II, B-IV, C-I, D-III
4. A-IV, B-III, C-II, D-I

Options :

485584153589. 1
485584153590. 2
485584153591. 3
485584153592. 4

Question Number : 584 Question Id : 48558438399 Question Type : MCQ Option Shuffling : No Is Question Mandatory : No Calculator : None
Response Time : N.A Think Time : N.A Minimum Instruction Time : 0

Correct Marks : 5 Wrong Marks : 1

Question Key Details :

Key	Value
Comprehension	MCQ2

Match List I with List II

LIST I		LIST II	
A.	Falcon on a Bird Rest	I.	1937
B.	Zebra	II.	1615
C.	Krishna as envoy	III.	1621
D.	Dhaka	IV.	1906

Choose the correct answer from the options given below:

1. A-I, B-II, C-III, D-IV
2. A-III, B-IV, C-II, D-I
3. A-IV, B-I, C-III, D-II
4. A-II, B-III, C-IV, D-I

Options :

485584153593. 1
485584153594. 2
485584153595. 3
485584153596. 4

Question Number : 584 Question Id : 48558438399 Question Type : MCQ Option Shuffling : No Is Question Mandatory : No Calculator : None Response Time : N.A Think Time : N.A Minimum Instruction Time : 0

Correct Marks : 5 Wrong Marks : 1

Question Key Details :

Key	Value
Comprehension	MCQ2

सूची I के साथ सूची II का मिलान कीजिए

सूची I		सूची II	
A.	फाल्कन ऑन ए बर्ड रेस्ट	I.	1937
B.	जेबरा	II.	1615
C.	कृष्णा एस एनवाय (दूत के रूप में कृष्ण)	III.	1621
D.	झाकी	IV.	1906

नीचे दिए गए विकल्पों में से सही उत्तर का चयन कीजिए-

1. A-I, B-II, C-III, D-IV
2. A-III, B-IV, C-II, D-I
3. A-IV, B-I, C-III, D-II
4. A-II, B-III, C-IV, D-I

Options :

485584153593. 1
485584153594. 2
485584153595. 3
485584153596. 4

Question Number : 585 Question Id : 48558438400 Question Type : MCQ Option Shuffling : No Is Question Mandatory : No Calculator : None Response Time : N.A Think Time : N.A Minimum Instruction Time : 0

Correct Marks : 5 Wrong Marks : 1

Question Key Details :

Key	Value
Comprehension	MCQ2

Match List I with List II

LIST I	LIST II
A. Vanahri	I. Bronze
B. Ganesha	II. Cement mixed with pebbles
C. Cries Un-Heard	III. Oxidised copper
D. Santhal Family	IV. Discarded material

Choose the correct answer from the options given below:

1. A-IV, B-III, C-I, D-II
2. A-I, B-IV, C-II, D-III
3. A-II, B-III, C-IV, D-I
4. A-III, B-IV, C-II, D-I

Options :

485584153597. 1
485584153598. 2
485584153599. 3
485584153600. 4

Question Number : 585 Question Id : 48558438400 Question Type : MCQ Option Shuffling : No Is Question Mandatory : No Calculator : None
Response Time : N.A Think Time : N.A Minimum Instruction Time : 0

Correct Marks : 5 Wrong Marks : 1

Question Key Details :

Key	Value
Comprehension	MCQ2

सूची I के साथ सूची II का मिलान कीजिए

सूची I	सूची II
A. वनश्री	I. काँसा
B. गणेश	II. पत्थर के टुकड़ों और सीमेंट का मिश्रण
C. ब्राइज अनहर्ड	III. आक्सीकृत तौबा
D. सन्थात परिवार	IV. पारितोष्य/अनुपयोगी सामग्री

नीचे दिए गए विकल्पों में से सही उत्तर का चयन कीजिए:

1. A-IV, B-III, C-I, D-II
2. A-I, B-IV, C-II, D-III
3. A-II, B-III, C-IV, D-I
4. A-III, B-IV, C-II, D-I

Options :

485584153597. 1
485584153598. 2
485584153599. 3
485584153600. 4

Geography

Group Number :	13
Group Id :	485584894
Group Maximum Duration :	45
Group Minimum Duration :	45
Show Attended Group? :	No

Edit Attended Group? :	No
Break time :	0
Group Marks :	200
Is this Group for Examiner? :	No
Examiner permission :	Cant View
Show Progress Bar? :	No

Geography

Section Id :	4855841036
Section Number :	1
Section type :	Online
Mandatory or Optional :	Mandatory
Number of Questions :	50
Number of Questions to be attempted :	40
Section Marks :	200
Enable Mark as Answered Mark for Review and Clear Response :	Yes
Maximum Instruction Time :	0
Sub-Section Number :	1
Sub-Section Id :	4855842934
Question Shuffling Allowed :	Yes
Is Section Default? :	null

Question Number : 586 Question Id : 48558439516 Question Type : MCQ Option Shuffling : No Is Question Mandatory : No Calculator : None Response Time : N.A Think Time : N.A Minimum Instruction Time : 0

Correct Marks : 5 Wrong Marks : 1

Question Key Details :

Key	Value
Comprehension	MCQ

The presence of naturalised human is prevalent in the doctrines of _____.

- (1) Neo-determinism
- (2) Possibilism
- (3) Environmental determinism
- (4) Probabilism

Options :

485584158061. 1
485584158062. 2
485584158063. 3
485584158064. 4

Question Number : 586 Question Id : 48558439516 Question Type : MCQ Option Shuffling : No Is Question Mandatory : No Calculator : None Response Time : N.A Think Time : N.A Minimum Instruction Time : 0

Correct Marks : 5 Wrong Marks : 1

Question Key Details :

Key	Value
Comprehension	MCQ

प्रकृतिकृत मानव की उपस्थिति _____ विचारधारा में प्रचलित है।

- (1) नव निश्चयवाद
- (2) संभववाद
- (3) पर्यावरणीय निश्चयवाद
- (4) सम्भाव्यवाद

Options :

485584158061. 1
485584158062. 2
485584158063. 3

485584158064. 4

Question Number : 587 Question Id : 48558439517 Question Type : MCQ Option Shuffling : No Is Question Mandatory : No Calculator : None
Response Time : N.A Think Time : N.A Minimum Instruction Time : 0

Correct Marks : 5 Wrong Marks : 1

Question Key Details :

Key	Value
Comprehension	MCQ

Which of the following did not emerge during 1970s ?

- (1) Humanistic approach
- (2) Spatial organisation approach
- (3) Welfare approach
- (4) Radical approach

Options :

485584158065. 1
485584158066. 2
485584158067. 3
485584158068. 4

Question Number : 587 Question Id : 48558439517 Question Type : MCQ Option Shuffling : No Is Question Mandatory : No Calculator : None
Response Time : N.A Think Time : N.A Minimum Instruction Time : 0

Correct Marks : 5 Wrong Marks : 1

Question Key Details :

Key	Value
Comprehension	MCQ

निम्न में से किसका 1970 के दशक के दौरान उद्भव नहीं हुआ ?

- (1) मानवतावादी उपागम
- (2) स्थानिक संगठन उपागम
- (3) कल्याणपरक उपागम
- (4) आमूलवादी (रेडिकल) उपागम

Options :

485584158065. 1
485584158066. 2
485584158067. 3
485584158068. 4

Question Number : 588 Question Id : 48558439518 Question Type : MCQ Option Shuffling : No Is Question Mandatory : No Calculator : None
Response Time : N.A Think Time : N.A Minimum Instruction Time : 0

Correct Marks : 5 Wrong Marks : 1

Question Key Details :

Key	Value
Comprehension	MCQ

Which of the following is the sub-field of social geography ?

- (1) Behavioural Geography
- (2) Electoral Geography
- (3) Geography of Agriculture
- (4) Geography of Resources

Options :

485584158069. 1
485584158070. 2
485584158071. 3
485584158072. 4

Question Number : 588 Question Id : 48558439518 Question Type : MCQ Option Shuffling : No Is Question Mandatory : No Calculator : None Response Time : N.A Think Time : N.A Minimum Instruction Time : 0

Correct Marks : 5 Wrong Marks : 1

Question Key Details :

Key	Value
Comprehension	MCQ

निम्न में से कौन सा सामाजिक भूगोल का उप-क्षेत्र है ?

- (1) व्यवहारवादी भूगोल
- (2) निर्वाचन भूगोल
- (3) कृषि भूगोल
- (4) संसाधन भूगोल

Options :

485584158069. 1
485584158070. 2
485584158071. 3
485584158072. 4

Question Number : 589 Question Id : 48558439519 Question Type : MCQ Option Shuffling : No Is Question Mandatory : No Calculator : None Response Time : N.A Think Time : N.A Minimum Instruction Time : 0

Correct Marks : 5 Wrong Marks : 1

Question Key Details :

Key	Value
Comprehension	MCQ

Which of the following discipline is not related to Gender Geography ?

- (1) Sociology
- (2) Demography
- (3) Anthropology
- (4) Women's Studies

Options :

485584158073. 1
485584158074. 2
485584158075. 3
485584158076. 4

Question Number : 589 Question Id : 48558439519 Question Type : MCQ Option Shuffling : No Is Question Mandatory : No Calculator : None Response Time : N.A Think Time : N.A Minimum Instruction Time : 0

Correct Marks : 5 Wrong Marks : 1

Question Key Details :

Key	Value
Comprehension	MCQ

निम्न में से कौन सा सहयोगी विषय, लिंग भूगोल से सम्बंधित नहीं है ?

- (1) समाजशास्त्र
- (2) जनान्किकी
- (3) मानव विज्ञान
- (4) महिला अध्ययन

Options :

485584158073. 1
485584158074. 2
485584158075. 3
485584158076. 4

Question Number : 590 Question Id : 48558439520 Question Type : MCQ Option Shuffling : No Is Question Mandatory : No Calculator : None
Response Time : N.A Think Time : N.A Minimum Instruction Time : 0

Correct Marks : 5 Wrong Marks : 1

Question Key Details :

Key	Value
Comprehension	MCQ

Which of the following is an economic factor influencing the distribution of population ?

- (1) Landforms
- (2) Minerals
- (3) Climate
- (4) Soils

Options :

485584158077. 1

485584158078. 2

485584158079. 3

485584158080. 4

Question Number : 590 Question Id : 48558439520 Question Type : MCQ Option Shuffling : No Is Question Mandatory : No Calculator : None
Response Time : N.A Think Time : N.A Minimum Instruction Time : 0

Correct Marks : 5 Wrong Marks : 1

Question Key Details :

Key	Value
Comprehension	MCQ

निम्न में से कौन सा एक आर्थिक कारक जनसंख्या वितरण को प्रभावित करता है ?

- (1) भू-आकृतियाँ
- (2) खनिज
- (3) जलवायु
- (4) मृदाएँ

Options :

485584158077. 1

485584158078. 2

485584158079. 3

485584158080. 4

Question Number : 591 Question Id : 48558439521 Question Type : MCQ Option Shuffling : No Is Question Mandatory : No Calculator : None
Response Time : N.A Think Time : N.A Minimum Instruction Time : 0

Correct Marks : 5 Wrong Marks : 1

Question Key Details :

Key	Value
Comprehension	MCQ

Which of the following is **not** a push factor of people migration ?

- (1) Unemployment
- (2) Political turmoil
- (3) Pleasant Climate
- (4) Poor living Conditions

Options :

485584158081. 1

485584158082. 2

485584158083. 3

485584158084. 4

Question Number : 591 Question Id : 48558439521 Question Type : MCQ Option Shuffling : No Is Question Mandatory : No Calculator : None
Response Time : N.A Think Time : N.A Minimum Instruction Time : 0

Correct Marks : 5 Wrong Marks : 1

Question Key Details :

Key	Value
Comprehension	MCQ

लोगों के प्रवास का निम्न में से कौन सा एक प्रतिकर्ष कारक नहीं है ?

- (1) बेरोजगारी
- (2) राजनीतिक उपद्रव
- (3) अनुकूल जलवायु
- (4) रहन-सहन की निम्न दशाएं

Options :

485584158081. 1

485584158082. 2

485584158083. 3

485584158084. 4

Question Number : 592 Question Id : 48558439522 Question Type : MCQ Option Shuffling : No Is Question Mandatory : No Calculator : None Response Time : N.A Think Time : N.A Minimum Instruction Time : 0

Correct Marks : 5 Wrong Marks : 1

Question Key Details :

Key	Value
Comprehension	MCQ

Ageing population is the result of _____.

- (1) Decline in birth rate and increased life expectancy
- (2) Larger population in lower age group
- (3) Increasing life expectancy and high birth rate
- (4) High birth rate and low death rate

Options :

485584158085. 1

485584158086. 2

485584158087. 3

485584158088. 4

Question Number : 592 Question Id : 48558439522 Question Type : MCQ Option Shuffling : No Is Question Mandatory : No Calculator : None Response Time : N.A Think Time : N.A Minimum Instruction Time : 0

Correct Marks : 5 Wrong Marks : 1

Question Key Details :

Key	Value
Comprehension	MCQ

वृद्ध होती जनसंख्या _____ का परिणाम है।

- (1) जन्म दर में कमी और जीवन प्रत्याशा में वृद्धि
- (2) निम्न आयु वर्ग में अधिक जनसंख्या
- (3) बढ़ती हुई जीवन प्रत्याशा और उच्च जन्म दर
- (4) उच्च जन्म दर और निम्न मृत्यु दर

Options :

485584158085. 1

485584158086. 2

485584158087. 3

485584158088. 4

Question Number : 593 Question Id : 48558439523 Question Type : MCQ Option Shuffling : No Is Question Mandatory : No Calculator : None Response Time : N.A Think Time : N.A Minimum Instruction Time : 0

Correct Marks : 5 Wrong Marks : 1

Question Key Details :

Key	Value
Comprehension	MCQ

'Reindeer' is the most important animal found in _____.

- (1) Arctic and sub-Arctic Region
- (2) Arabian peninsula
- (3) Sahara and Asiatic Desert
- (4) Island of Madagascar

Options :

485584158089. 1
 485584158090. 2
 485584158091. 3
 485584158092. 4

Question Number : 593 Question Id : 48558439523 Question Type : MCQ Option Shuffling : No Is Question Mandatory : No Calculator : None Response Time : N.A Think Time : N.A Minimum Instruction Time : 0

Correct Marks : 5 Wrong Marks : 1

Question Key Details :

Key	Value
Comprehension	MCQ

'रेंडियर' अति महत्वपूर्ण पशु है जो _____ में पाया जाता है।

- (1) आर्कटिक और उप-ध्रुवीय प्रदेश
- (2) अरब प्रायद्वीप
- (3) सहारा और एशिया के मरूस्थल
- (4) मेडागास्कर द्वीप

Options :

485584158089. 1
 485584158090. 2
 485584158091. 3
 485584158092. 4

Question Number : 594 Question Id : 48558439524 Question Type : MCQ Option Shuffling : No Is Question Mandatory : No Calculator : None Response Time : N.A Think Time : N.A Minimum Instruction Time : 0

Correct Marks : 5 Wrong Marks : 1

Question Key Details :

Key	Value
Comprehension	MCQ

_____ is non-Mediterranean agriculture region.

- (1) Southern California
- (2) Central Chile
- (3) South Western parts of Australia
- (4) Central Africa

Options :

485584158093. 1
 485584158094. 2
 485584158095. 3
 485584158096. 4

Question Number : 594 Question Id : 48558439524 Question Type : MCQ Option Shuffling : No Is Question Mandatory : No Calculator : None Response Time : N.A Think Time : N.A Minimum Instruction Time : 0

Correct Marks : 5 Wrong Marks : 1

Question Key Details :

Key	Value

_____ गैर-भूमध्य सागरीय कृषि प्रदेश है।

- (1) दक्षिणी कैलीफोर्निया
- (2) मध्य चिली
- (3) दक्षिण पश्चिमी ऑस्ट्रेलिया के भाग
- (4) मध्य अफ्रीका

Options :

485584158093. 1
485584158094. 2
485584158095. 3
485584158096. 4

Question Number : 595 Question Id : 48558439525 Question Type : MCQ Option Shuffling : No Is Question Mandatory : No Calculator : None Response Time : N.A Think Time : N.A Minimum Instruction Time : 0

Correct Marks : 5 Wrong Marks : 1

Question Key Details :

Key	Value
Comprehension	MCQ

_____ is usually found on steep mountain slopes.

- (1) Waterway
- (2) Highway
- (3) Ropeway
- (4) Railway

Options :

485584158097. 1
485584158098. 2
485584158099. 3
485584158100. 4

Question Number : 595 Question Id : 48558439525 Question Type : MCQ Option Shuffling : No Is Question Mandatory : No Calculator : None Response Time : N.A Think Time : N.A Minimum Instruction Time : 0

Correct Marks : 5 Wrong Marks : 1

Question Key Details :

Key	Value
Comprehension	MCQ

_____ प्रायः तीव्र पर्वतीय ढलानों पर पाए जाते हैं।

- (1) जलमार्ग
- (2) महामार्ग
- (3) रज्जुमार्ग (रोपवे)
- (4) रेलमार्ग

Options :

485584158097. 1
485584158098. 2
485584158099. 3
485584158100. 4

Question Number : 596 Question Id : 48558439526 Question Type : MCQ Option Shuffling : No Is Question Mandatory : No Calculator : None Response Time : N.A Think Time : N.A Minimum Instruction Time : 0

Correct Marks : 5 Wrong Marks : 1

Question Key Details :

Key	Value

Trans-Canadian railways runs between two terminal stations _____.

- (1) Calgary and Halifax
- (2) Calgary and Sydney
- (3) Vancouver and Halifax
- (4) Vancouver and Quebec

Options :

485584158101. 1
485584158102. 2
485584158103. 3
485584158104. 4

Question Number : 596 Question Id : 48558439526 Question Type : MCQ Option Shuffling : No Is Question Mandatory : No Calculator : None Response Time : N.A Think Time : N.A Minimum Instruction Time : 0

Correct Marks : 5 Wrong Marks : 1

Question Key Details :

Key	Value
Comprehension	MCQ

पार कॅनेडियन रेलमार्ग दो अंतिम स्टेशनों _____ के बीच चलता है।

- (1) कैलगरी और हैलीफैक्स
- (2) कैलगरी और सिडनी
- (3) वैंकूवर और हैलीफैक्स
- (4) वैंकूवर और क्यूबेक

Options :

485584158101. 1
485584158102. 2
485584158103. 3
485584158104. 4

Question Number : 597 Question Id : 48558439527 Question Type : MCQ Option Shuffling : No Is Question Mandatory : No Calculator : None Response Time : N.A Think Time : N.A Minimum Instruction Time : 0

Correct Marks : 5 Wrong Marks : 1

Question Key Details :

Key	Value
Comprehension	MCQ

Which of the following mode of transport has the lowest energy cost ?

- (1) Water Transport
- (2) Air Transport
- (3) Rail Transport
- (4) Road Transport

Options :

485584158105. 1
485584158106. 2
485584158107. 3
485584158108. 4

Question Number : 597 Question Id : 48558439527 Question Type : MCQ Option Shuffling : No Is Question Mandatory : No Calculator : None Response Time : N.A Think Time : N.A Minimum Instruction Time : 0

Correct Marks : 5 Wrong Marks : 1

Question Key Details :

Key	Value
Comprehension	MCQ

निम्न में से कौन सा परिवहन का माध्यम निम्नतम ऊर्जा लागत का है ?

- (1) जल परिवहन
- (2) वायु परिवहन
- (3) रेल परिवहन
- (4) सड़क परिवहन

Options :

485584158105. 1
485584158106. 2
485584158107. 3
485584158108. 4

Question Number : 598 Question Id : 48558439528 Question Type : MCQ Option Shuffling : No Is Question Mandatory : No Calculator : None
Response Time : N.A Think Time : N.A Minimum Instruction Time : 0

Correct Marks : 5 Wrong Marks : 1

Question Key Details :

Key	Value
Comprehension	MCQ

Which of the following has the meaning of 'Great City' and was popularised by Jean Gottman ?

- (1) Million City
- (2) Conurbation
- (3) Metro City
- (4) Megalopolis

Options :

485584158109. 1
485584158110. 2
485584158111. 3
485584158112. 4

Question Number : 598 Question Id : 48558439528 Question Type : MCQ Option Shuffling : No Is Question Mandatory : No Calculator : None
Response Time : N.A Think Time : N.A Minimum Instruction Time : 0

Correct Marks : 5 Wrong Marks : 1

Question Key Details :

Key	Value
Comprehension	MCQ

निम्न में से किसका अर्थ "विशाल नगर" है और इसे जीन गोटमेन द्वारा प्रचलित किया गया था ?

- (1) मिलियन सिटी
- (2) सन्नगर
- (3) महानगर
- (4) विश्वनगरी

Options :

485584158109. 1
485584158110. 2
485584158111. 3
485584158112. 4

Question Number : 599 Question Id : 48558439529 Question Type : MCQ Option Shuffling : No Is Question Mandatory : No Calculator : None
Response Time : N.A Think Time : N.A Minimum Instruction Time : 0

Correct Marks : 5 Wrong Marks : 1

Question Key Details :

Key	Value
Comprehension	MCQ

Which of the following is **not** suggested as a must for healthy city by the World Health Organisation ?

- (1) A clean and safe environment
- (2) Involves the community in local government
- (3) provides easily accessible health service
- (4) provides free water and electricity to citizens

Options :

485584158113. 1
485584158114. 2
485584158115. 3
485584158116. 4

Question Number : 599 Question Id : 48558439529 Question Type : MCQ Option Shuffling : No Is Question Mandatory : No Calculator : None Response Time : N.A Think Time : N.A Minimum Instruction Time : 0

Correct Marks : 5 Wrong Marks : 1

Question Key Details :

Key	Value
Comprehension	MCQ

निम्न में से कौन सा एक स्वस्थ शहर के लिए विश्व स्वास्थ्य संगठन द्वारा आवश्यक नहीं बताया गया है ?

- (1) एक स्वच्छ एवं सुरक्षित वातावरण
- (2) स्थानीय सरकार में समुदाय की भागीदारी
- (3) सभी के लिए आसानी से उपलब्ध स्वास्थ्य सुविधाएं
- (4) नागरिकों को निशुल्क पानी और बिजली प्रदान करना

Options :

485584158113. 1
485584158114. 2
485584158115. 3
485584158116. 4

Question Number : 600 Question Id : 48558439530 Question Type : MCQ Option Shuffling : No Is Question Mandatory : No Calculator : None Response Time : N.A Think Time : N.A Minimum Instruction Time : 0

Correct Marks : 5 Wrong Marks : 1

Question Key Details :

Key	Value
Comprehension	MCQ

Arrange the following continents in ascending order of their area.

- (A) Europe
- (B) Asia
- (C) Africa
- (D) North America

Choose the **correct** answer from the options given below :

- (1) (D), (A), (B), (C)
- (2) (D), (A), (C), (B)
- (3) (B), (D), (C), (A)
- (4) (B), (D), (A), (C)

Options :

485584158117. 1
485584158118. 2
485584158119. 3
485584158120. 4

Question Number : 600 Question Id : 48558439530 Question Type : MCQ Option Shuffling : No Is Question Mandatory : No Calculator : None
Response Time : N.A Think Time : N.A Minimum Instruction Time : 0

Correct Marks : 5 Wrong Marks : 1

Question Key Details :

Key	Value
Comprehension	MCQ

निम्न महाद्वीपों को उनके क्षेत्रफल के अनुसार आरोही क्रम में व्यवस्थित कीजिए।

- (A) यूरोप
- (B) एशिया
- (C) अफ्रीका
- (D) उत्तरी अमेरिका

नीचे दिए गए विकल्पों में से सही उत्तर का चयन कीजिए :

- (1) (D), (A), (B), (C)
- (2) (D), (A), (C), (B)
- (3) (B), (D), (C), (A)
- (4) (B), (D), (A), (C)

Options :

- 485584158117. 1
- 485584158118. 2
- 485584158119. 3
- 485584158120. 4

Question Number : 601 Question Id : 48558439531 Question Type : MCQ Option Shuffling : No Is Question Mandatory : No Calculator : None
Response Time : N.A Think Time : N.A Minimum Instruction Time : 0

Correct Marks : 5 Wrong Marks : 1

Question Key Details :

Key	Value
Comprehension	MCQ

Identify correct statements about age structure of population.

- (A) Nigeria has triangular shaped age-sex pyramid.
- (B) Australia's age-sex pyramid is bell shaped.
- (C) Japan has a narrow base pyramid.
- (D) Mexico has bell shaped age-sex pyramid.

Choose the correct answer from the options given below :

- (1) (A), (B) and (D) only
- (2) (B), (C), and (D) only
- (3) (A), (B) and (C) only
- (4) (A), (C) and (D) only

Options :

- 485584158121. 1
- 485584158122. 2
- 485584158123. 3
- 485584158124. 4

Question Number : 601 Question Id : 48558439531 Question Type : MCQ Option Shuffling : No Is Question Mandatory : No Calculator : None
Response Time : N.A Think Time : N.A Minimum Instruction Time : 0

Correct Marks : 5 Wrong Marks : 1

Question Key Details :

Key	Value
Comprehension	MCQ

जनसंख्या आयु संरचना के संदर्भ में सही कथनों को पहचानिए।

- (A) नाइजीरिया का आयु-लिंग पिरामिड त्रिभुजाकार है।
- (B) ऑस्ट्रेलिया का आयु-लिंग पिरामिड घंटी के आकार का है।
- (C) जापान के पिरामिड का आधार संकीर्ण है।
- (D) मैक्सिको का आयु-लिंग पिरामिड घंटी के आकार का है।

नीचे दिए गए विकल्पों में से सही उत्तर का चयन कीजिए :

- (1) केवल (A), (B) और (D)
- (2) केवल (B), (C), और (D)
- (3) केवल (A), (B) और (C)
- (4) केवल (A), (C) और (D)

Options :

- 485584158121. 1
- 485584158122. 2
- 485584158123. 3
- 485584158124. 4

Question Number : 602 Question Id : 48558439532 Question Type : MCQ Option Shuffling : No Is Question Mandatory : No Calculator : None
Response Time : N.A Think Time : N.A Minimum Instruction Time : 0

Correct Marks : 5 Wrong Marks : 1

Question Key Details :

Key	Value
Comprehension	MCQ

Identify correct statements about the Human Poverty Index.

- (A) It is a non-income measure.
- (B) The probability of not surviving till the age of 40 is considered.
- (C) It includes the number of small children who are underweight.
- (D) Often Human development Index is more revealing than human poverty Index.

Choose the correct answer from the options given below :

- (1) (A), (B), (C) only
- (2) (B), (C), (D) only
- (3) (A), (C), (D) only
- (4) (A), (B), (D) only

Options :

- 485584158125. 1
- 485584158126. 2
- 485584158127. 3
- 485584158128. 4

Question Number : 602 Question Id : 48558439532 Question Type : MCQ Option Shuffling : No Is Question Mandatory : No Calculator : None
Response Time : N.A Think Time : N.A Minimum Instruction Time : 0

Correct Marks : 5 Wrong Marks : 1

Question Key Details :

Key	Value
Comprehension	MCQ

मानव गरीबी सूचकांक के बारे में सही कथनों को पहचानिए।

- (A) यह एक गैर-आय माप है।
- (B) 40 वर्ष तक जीवित न रह पाने की संभाव्यता को सम्मिलित करता है।
- (C) अल्प भार वाले छोटे बच्चों की संख्या को शामिल करता है।
- (D) प्रायः मानव विकास सूचकांक, मानव गरीबी सूचकांक की तुलना में अधिक कमी दर्शाता है।

नीचे दिए गए विकल्पों में से सही उत्तर का चयन कीजिए :

- (1) केवल (A), (B), (C)
- (2) केवल (B), (C), (D)
- (3) केवल (A), (C), (D)
- (4) केवल (A), (B), (D)

Options :

- 485584158125. 1
- 485584158126. 2
- 485584158127. 3
- 485584158128. 4

Question Number : 603 Question Id : 48558439533 Question Type : MCQ Option Shuffling : No Is Question Mandatory : No Calculator : None Response Time : N.A Think Time : N.A Minimum Instruction Time : 0

Correct Marks : 5 Wrong Marks : 1

Question Key Details :

Key	Value
Comprehension	MCQ

Identify the members of the Organisation of Petroleum Exporting Countries from the following :

- (A) Indonesia
- (B) India
- (C) Iran
- (D) Venezuela

Choose the correct answer from the options given below :

- (1) (A), (B), (C) only
- (2) (B), (C), (D) only
- (3) (A), (C), (D) only
- (4) (A), (B), (D) only

Options :

- 485584158129. 1
- 485584158130. 2
- 485584158131. 3
- 485584158132. 4

Question Number : 603 Question Id : 48558439533 Question Type : MCQ Option Shuffling : No Is Question Mandatory : No Calculator : None Response Time : N.A Think Time : N.A Minimum Instruction Time : 0

Correct Marks : 5 Wrong Marks : 1

Question Key Details :

Key	Value
Comprehension	MCQ

निम्न में से पेट्रोलियम निर्यातक देशों के संगठन के सदस्यों को पहचानिए :

- (A) इंडोनेशिया
- (B) भारत
- (C) इरान
- (D) वेनेजुएला

नीचे दिए गए विकल्पों में से सही उत्तर का चयन कीजिए :

- (1) केवल (A), (B), (C)
- (2) केवल (B), (C), (D)
- (3) केवल (A), (C), (D)
- (4) केवल (A), (B), (D)

Options :

- 485584158129. 1
- 485584158130. 2
- 485584158131. 3
- 485584158132. 4

Question Number : 604 Question Id : 48558439534 Question Type : MCQ Option Shuffling : No Is Question Mandatory : No Calculator : None Response Time : N.A Think Time : N.A Minimum Instruction Time : 0

Correct Marks : 5 Wrong Marks : 1

Question Key Details :

Key	Value
Comprehension	MCQ

Match List - I with List - II.

List - I (Type of Port)	List - II (Examples)
(A) Oil Port	(I) Honolulu
(B) Ferry Port	(II) Kochchi
(C) Naval Port	(III) Tripoli
(D) Port of Call	(IV) Dover

Choose the correct answer from the options given below :

- (1) (A)-(I), (B)-(II), (C)-(III), (D)-(IV)
- (2) (A)-(II), (B)-(III), (C)-(I), (D)-(IV)
- (3) (A)-(III), (B)-(IV), (C)-(II), (D)-(I)
- (4) (A)-(III), (B)-(I), (C)-(II), (D)-(IV)

Options :

- 485584158133. 1
- 485584158134. 2
- 485584158135. 3
- 485584158136. 4

Question Number : 604 Question Id : 48558439534 Question Type : MCQ Option Shuffling : No Is Question Mandatory : No Calculator : None Response Time : N.A Think Time : N.A Minimum Instruction Time : 0

Correct Marks : 5 Wrong Marks : 1

Question Key Details :

Key	Value
Comprehension	MCQ

सूची-I से सूची-II का मिलान कीजिए:

सूची-I (पत्तन का प्रकार)	सूची-II (उदाहरण)
(A) तेल पत्तन	(I) होनोलूलू
(B) फेरी पत्तन	(II) कोच्चि
(C) नौ सेना पत्तन	(III) त्रिपोली
(D) मार्ग पत्तन	(IV) डोवर

नीचे दिए गए विकल्पों में से सही उत्तर का चयन कीजिए :

- (1) (A)-(I), (B)-(II), (C)-(III), (D)-(IV)
- (2) (A)-(II), (B)-(III), (C)-(I), (D)-(IV)
- (3) (A)-(III), (B)-(IV), (C)-(II), (D)-(I)
- (4) (A)-(III), (B)-(I), (C)-(II), (D)-(IV)

Options :

485584158133. 1
485584158134. 2
485584158135. 3
485584158136. 4

Question Number : 605 Question Id : 48558439535 Question Type : MCQ Option Shuffling : No Is Question Mandatory : No Calculator : None Response Time : N.A Think Time : N.A Minimum Instruction Time : 0

Correct Marks : 5 Wrong Marks : 1

Question Key Details :

Key	Value
Comprehension	MCQ

Match List - I with List - II.

- List - I**
(Rural Settlement Patterns)
(A) Rectangular Pattern
(B) Circular Pattern
(C) Double Village
(D) Star like Pattern

- List - II**
(Their Development)
(I) On both sides of a river with bridge or ferry
(II) Where several roads converge
(III) Develop around lakes
(IV) Settlement found in Plain areas

Choose the correct answer from the options given below :

- (1) (A)-(I), (B)-(II), (C)-(III), (D)-(IV)
- (2) (A)-(IV), (B)-(III), (C)-(II), (D)-(I)
- (3) (A)-(IV), (B)-(III), (C)-(I), (D)-(II)
- (4) (A)-(I), (B)-(IV), (C)-(III), (D)-(II)

Options :

485584158137. 1
485584158138. 2
485584158139. 3
485584158140. 4

Question Number : 605 Question Id : 48558439535 Question Type : MCQ Option Shuffling : No Is Question Mandatory : No Calculator : None Response Time : N.A Think Time : N.A Minimum Instruction Time : 0

Correct Marks : 5 Wrong Marks : 1

Question Key Details :

Key	Value
Comprehension	MCQ

सूची-I से सूची-II का मिलान कीजिए:

सूची-I

(ग्रामीण बस्ती प्रतिरूप)

- (A) आयताकार प्रतिरूप
 (B) वृत्ताकार प्रतिरूप
 (C) दोहरे ग्राम
 (D) तारे जैसा प्रतिरूप

सूची-II

(उनका विकास)

- (I) नदी के दोनों ओर जहाँ पुल या फेरी हैं
 (II) जहाँ अनेक सड़कें मिलती हैं
 (III) झील के चारों ओर विकसित
 (IV) बस्ती मैदानी क्षेत्रों में पायी जाती है

नीचे दिए गए विकल्पों में से सही उत्तर का चयन कीजिए :

- (1) (A)-(I), (B)-(II), (C)-(III), (D)-(IV)
 (2) (A)-(IV), (B)-(III), (C)-(II), (D)-(I)
 (3) (A)-(IV), (B)-(III), (C)-(I), (D)-(II)
 (4) (A)-(I), (B)-(IV), (C)-(III), (D)-(II)

Options :

485584158137. 1
 485584158138. 2
 485584158139. 3
 485584158140. 4

Question Number : 606 Question Id : 48558439536 Question Type : MCQ Option Shuffling : No Is Question Mandatory : No Calculator : None
 Response Time : N.A Think Time : N.A Minimum Instruction Time : 0
 Correct Marks : 5 Wrong Marks : 1

Question Key Details :

Key	Value
Comprehension	MCQ

According to 2011 Census which state has urban population more than 50% of the State population ?

- (1) Tamil Nadu
 (2) Kerela
 (3) Maharashtra
 (4) Mizoram

Options :

485584158141. 1
 485584158142. 2
 485584158143. 3
 485584158144. 4

Question Number : 606 Question Id : 48558439536 Question Type : MCQ Option Shuffling : No Is Question Mandatory : No Calculator : None
 Response Time : N.A Think Time : N.A Minimum Instruction Time : 0
 Correct Marks : 5 Wrong Marks : 1

Question Key Details :

Key	Value
Comprehension	MCQ

2011 की जनगणना के अनुसार किस राज्य की जनसंख्या का 50% से अधिक नगरीय जनसंख्या है ?

- (1) तमिलनाडु
- (2) केरल
- (3) महाराष्ट्र
- (4) मिजोरम

Options :

485584158141. 1
485584158142. 2
485584158143. 3
485584158144. 4

Question Number : 607 Question Id : 48558439537 Question Type : MCQ Option Shuffling : No Is Question Mandatory : No Calculator : None Response Time : N.A Think Time : N.A Minimum Instruction Time : 0

Correct Marks : 5 Wrong Marks : 1

Question Key Details :

Key	Value
Comprehension	MCQ

Men predominate the rural to urban stream of inter-state migration due to _____.

- (1) Social Reasons
- (2) Economic Reasons
- (3) Political Reasons
- (4) Educational Reasons

Options :

485584158145. 1
485584158146. 2
485584158147. 3
485584158148. 4

Question Number : 607 Question Id : 48558439537 Question Type : MCQ Option Shuffling : No Is Question Mandatory : No Calculator : None Response Time : N.A Think Time : N.A Minimum Instruction Time : 0

Correct Marks : 5 Wrong Marks : 1

Question Key Details :

Key	Value
Comprehension	MCQ

_____ को वजह से अंतर-राज्यीय प्रवास ग्राम से नगर धारा में पुरुष सर्वाधिक हैं।

- (1) सामाजिक कारणों
- (2) आर्थिक कारणों
- (3) राजनीतिक कारणों
- (4) शैक्षिक कारणों

Options :

485584158145. 1
485584158146. 2
485584158147. 3
485584158148. 4

Question Number : 608 Question Id : 48558439538 Question Type : MCQ Option Shuffling : No Is Question Mandatory : No Calculator : None Response Time : N.A Think Time : N.A Minimum Instruction Time : 0

Correct Marks : 5 Wrong Marks : 1

Question Key Details :

Key	Value
Comprehension	MCQ

According to the Census of India (2011) the child sex ratio in Punjab and Haryana is _____.

- (1) more than 890 female children per 1000 male children
- (2) 870 - 890 female children per 1000 male children
- (3) 850 - 870 female children per thousand male children
- (4) less than 850 female children per 1000 male children

Options :

- 485584158149. 1
- 485584158150. 2
- 485584158151. 3
- 485584158152. 4

Question Number : 608 Question Id : 48558439538 Question Type : MCQ Option Shuffling : No Is Question Mandatory : No Calculator : None Response Time : N.A Think Time : N.A Minimum Instruction Time : 0

Correct Marks : 5 Wrong Marks : 1

Question Key Details :

Key	Value
Comprehension	MCQ

भारत की 2011 की जनगणना के अनुसार पंजाब और हरियाणा में शिशु लिंग अनुपात है :

- (1) प्रति 1000 पुरुष शिशुओं पर 890 से अधिक स्त्री शिशु
- (2) प्रति 1000 पुरुष शिशुओं पर 870 - 890 स्त्री शिशु
- (3) प्रति 1000 पुरुष शिशुओं पर 850 - 870 स्त्री शिशु
- (4) प्रति 1000 पुरुष शिशुओं पर 850 से कम स्त्री शिशु

Options :

- 485584158149. 1
- 485584158150. 2
- 485584158151. 3
- 485584158152. 4

Question Number : 609 Question Id : 48558439539 Question Type : MCQ Option Shuffling : No Is Question Mandatory : No Calculator : None Response Time : N.A Think Time : N.A Minimum Instruction Time : 0

Correct Marks : 5 Wrong Marks : 1

Question Key Details :

Key	Value
Comprehension	MCQ

Which one of the following is **not** a feature of Clustered Settlement ?

- (1) Clustered rural settlement is closely built up area of house
- (2) Clustered settlements are generally found in fertile alluvial plains
- (3) People live in compact village for security or defence reasons
- (4) The units like Panna, Para, Palli etc. belong to clustered settlements

Options :

- 485584158153. 1
- 485584158154. 2
- 485584158155. 3
- 485584158156. 4

Question Number : 609 Question Id : 48558439539 Question Type : MCQ Option Shuffling : No Is Question Mandatory : No Calculator : None Response Time : N.A Think Time : N.A Minimum Instruction Time : 0

Correct Marks : 5 Wrong Marks : 1

Question Key Details :

Key	Value
Comprehension	MCQ

निम्न में से कौन सा एक लक्षण गुच्छित बस्ती का नहीं है ?

- (1) गुच्छित ग्रामीण बस्ती संकुलित रूप से निर्मित घरों का क्षेत्र है
- (2) गुच्छित ग्रामीण बस्ती प्रायः उपजाऊ जलोढ़ मैदानों में पाई जाती है
- (3) लोग सुरक्षा या प्रतिरक्षा कारणों से संहत गाँव में रहते हैं
- (4) ईकाइयाँ जैसे पाना, पाड़ा, पाली आदि, गुच्छित बस्तियों से सम्बंधित हैं

Options :

485584158153. 1
485584158154. 2
485584158155. 3
485584158156. 4

Question Number : 610 Question Id : 48558439540 Question Type : MCQ Option Shuffling : No Is Question Mandatory : No Calculator : None
Response Time : N.A Think Time : N.A Minimum Instruction Time : 0

Correct Marks : 5 Wrong Marks : 1

Question Key Details :

Key	Value
Comprehension	MCQ

Which one of the following town was developed after independence ?

- (1) Bhubneswar
- (2) Nagpur
- (3) Mumbai
- (4) Kolkata

Options :

485584158157. 1
485584158158. 2
485584158159. 3
485584158160. 4

Question Number : 610 Question Id : 48558439540 Question Type : MCQ Option Shuffling : No Is Question Mandatory : No Calculator : None
Response Time : N.A Think Time : N.A Minimum Instruction Time : 0

Correct Marks : 5 Wrong Marks : 1

Question Key Details :

Key	Value
Comprehension	MCQ

निम्न में से कौन से नगर का स्वतंत्रता के बाद विकास हुआ ?

- (1) भुवनेश्वर
- (2) नागपुर
- (3) मुम्बई
- (4) कोलकाता

Options :

485584158157. 1
485584158158. 2
485584158159. 3
485584158160. 4

Question Number : 611 Question Id : 48558439541 Question Type : MCQ Option Shuffling : No Is Question Mandatory : No Calculator : None
Response Time : N.A Think Time : N.A Minimum Instruction Time : 0

Correct Marks : 5 Wrong Marks : 1

Question Key Details :

Key	Value
Comprehension	MCQ

India accounts for about _____ per cent of world's water resources.

- (1) 2.45
- (2) 4
- (3) 16
- (4) 23

Options :

- 485584158161. 1
- 485584158162. 2
- 485584158163. 3
- 485584158164. 4

Question Number : 611 Question Id : 48558439541 Question Type : MCQ Option Shuffling : No Is Question Mandatory : No Calculator : None Response Time : N.A Think Time : N.A Minimum Instruction Time : 0

Correct Marks : 5 Wrong Marks : 1

Question Key Details :

Key	Value
Comprehension	MCQ

विश्व के जल संसाधन लगभग _____ प्रतिशत हिस्सा भारत में है।

- (1) 2.45
- (2) 4
- (3) 16
- (4) 23

Options :

- 485584158161. 1
- 485584158162. 2
- 485584158163. 3
- 485584158164. 4

Question Number : 612 Question Id : 48558439542 Question Type : MCQ Option Shuffling : No Is Question Mandatory : No Calculator : None Response Time : N.A Think Time : N.A Minimum Instruction Time : 0

Correct Marks : 5 Wrong Marks : 1

Question Key Details :

Key	Value
Comprehension	MCQ

The raw material for cement industry are :

- (1) Limestone and marble
- (2) Dolomite and limestone
- (3) Dolomite and sandstone
- (4) Limestone and sandstone

Options :

- 485584158165. 1
- 485584158166. 2
- 485584158167. 3
- 485584158168. 4

Question Number : 612 Question Id : 48558439542 Question Type : MCQ Option Shuffling : No Is Question Mandatory : No Calculator : None Response Time : N.A Think Time : N.A Minimum Instruction Time : 0

Correct Marks : 5 Wrong Marks : 1

Question Key Details :

Key	Value
Comprehension	MCQ

सीमेंट उद्योग के लिए कच्चा माल हैं :

- (1) चूना पत्थर एवं संगमरमर
- (2) डोलोमाइट एवं चूना पत्थर
- (3) डोलोमाइट और बलुआ पत्थर
- (4) चूना पत्थर और बलुआ पत्थर

Options :

485584158165. 1
485584158166. 2
485584158167. 3
485584158168. 4

Question Number : 613 Question Id : 48558439543 Question Type : MCQ Option Shuffling : No Is Question Mandatory : No Calculator : None
Response Time : N.A Think Time : N.A Minimum Instruction Time : 0

Correct Marks : 5 Wrong Marks : 1

Question Key Details :

Key	Value
Comprehension	MCQ

The canary bird is used to detect _____ gas in the Singareni coal fields.

- (1) Carbon - Monoxide
- (2) Carbon - dioxide
- (3) Chlorofluorocarbons
- (4) Carbon

Options :

485584158169. 1
485584158170. 2
485584158171. 3
485584158172. 4

Question Number : 613 Question Id : 48558439543 Question Type : MCQ Option Shuffling : No Is Question Mandatory : No Calculator : None
Response Time : N.A Think Time : N.A Minimum Instruction Time : 0

Correct Marks : 5 Wrong Marks : 1

Question Key Details :

Key	Value
Comprehension	MCQ

सिंगरेनी कोयला खदान में _____ गैस का पता लगाने के लिए केनरी चिड़िया का उपयोग किया जाता है।

- (1) कार्बन-मोनोऑक्साइड
- (2) कार्बन-डाईऑक्साइड
- (3) क्लोरोफ्लोरो कार्बन
- (4) कार्बन

Options :

485584158169. 1
485584158170. 2
485584158171. 3
485584158172. 4

Question Number : 614 Question Id : 48558439544 Question Type : MCQ Option Shuffling : No Is Question Mandatory : No Calculator : None
Response Time : N.A Think Time : N.A Minimum Instruction Time : 0

Correct Marks : 5 Wrong Marks : 1

Question Key Details :

Key	Value
Comprehension	MCQ

The first serious attempt to develop modern road transport is known as _____.

- (1) Nagpur plan
- (2) Pune plan
- (3) Mumbai plan
- (4) Wardha plan

Options :

485584158173. 1
485584158174. 2
485584158175. 3
485584158176. 4

Question Number : 614 Question Id : 48558439544 Question Type : MCQ Option Shuffling : No Is Question Mandatory : No Calculator : None Response Time : N.A Think Time : N.A Minimum Instruction Time : 0

Correct Marks : 5 Wrong Marks : 1

Question Key Details :

Key	Value
Comprehension	MCQ

आधुनिक सड़क परिवहन के प्रथम गंभीर प्रयास को जाना जाता है।

- (1) नागपुर योजना
- (2) पुणे योजना
- (3) मुम्बई योजना
- (4) वर्धा योजना

Options :

485584158173. 1
485584158174. 2
485584158175. 3
485584158176. 4

Question Number : 615 Question Id : 48558439545 Question Type : MCQ Option Shuffling : No Is Question Mandatory : No Calculator : None Response Time : N.A Think Time : N.A Minimum Instruction Time : 0

Correct Marks : 5 Wrong Marks : 1

Question Key Details :

Key	Value
Comprehension	MCQ

Atal Tunnel is built in _____.

- (1) Pir Panjal Range
- (2) Zasker Range
- (3) Shiwalik Range
- (4) Dhauladhar Range

Options :

485584158177. 1
485584158178. 2
485584158179. 3
485584158180. 4

Question Number : 615 Question Id : 48558439545 Question Type : MCQ Option Shuffling : No Is Question Mandatory : No Calculator : None Response Time : N.A Think Time : N.A Minimum Instruction Time : 0

Correct Marks : 5 Wrong Marks : 1

Question Key Details :

Key	Value
Comprehension	MCQ

अटल टनल (सुरंग) _____ में बनाई गई है।

- (1) पीर पंजाल श्रेणी
- (2) जास्कर श्रेणी
- (3) शिवालिक श्रेणी
- (4) धौलाधर श्रेणी

Options :

485584158177. 1
485584158178. 2
485584158179. 3
485584158180. 4

Question Number : 616 Question Id : 48558439546 Question Type : MCQ Option Shuffling : No Is Question Mandatory : No Calculator : None Response Time : N.A Think Time : N.A Minimum Instruction Time : 0

Correct Marks : 5 Wrong Marks : 1

Question Key Details :

Key	Value
Comprehension	MCQ

The largest government undertaking in India is _____.

- (1) National Highway Authority
- (2) Indian Oil Corporation
- (3) Indian Railways
- (4) Oil and Natural Gas Corporation

Options :

485584158181. 1
485584158182. 2
485584158183. 3
485584158184. 4

Question Number : 616 Question Id : 48558439546 Question Type : MCQ Option Shuffling : No Is Question Mandatory : No Calculator : None Response Time : N.A Think Time : N.A Minimum Instruction Time : 0

Correct Marks : 5 Wrong Marks : 1

Question Key Details :

Key	Value
Comprehension	MCQ

भारत में _____ सरकार का विशालतम उद्यम है।

- (1) राष्ट्रीय महामार्ग प्राधिकरण
- (2) भारतीय तेल निगम
- (3) भारतीय रेलवे
- (4) तेल और प्राकृतिक गैस निगम

Options :

485584158181. 1
485584158182. 2
485584158183. 3
485584158184. 4

Question Number : 617 Question Id : 48558439547 Question Type : MCQ Option Shuffling : No Is Question Mandatory : No Calculator : None Response Time : N.A Think Time : N.A Minimum Instruction Time : 0

Correct Marks : 5 Wrong Marks : 1

Question Key Details :

Key	Value
Comprehension	MCQ

Arrange the following modern Indian languages on the basis of number of speakers in descending order.

- (A) Dravidian
- (B) Indo-European
- (C) Sino-Tibetan
- (D) Austric

Choose the correct answer from the options given below :

- (1) (A), (B), (C), (D)
- (2) (A), (B), (D), (C)
- (3) (B), (A), (C), (D)
- (4) (B), (A), (D), (C)

Options :

- 485584158185. 1
- 485584158186. 2
- 485584158187. 3
- 485584158188. 4

Question Number : 617 Question Id : 48558439547 Question Type : MCQ Option Shuffling : No Is Question Mandatory : No Calculator : None Response Time : N.A Think Time : N.A Minimum Instruction Time : 0

Correct Marks : 5 Wrong Marks : 1

Question Key Details :

Key	Value
Comprehension	MCQ

निम्न भारतीय भाषाओं को, उनके बोलने वालों की संख्या के आधार पर अवरोही क्रम में व्यवस्थित कीजिए।

- (A) द्रविड़
- (B) भारतीय-यूरोपीय
- (C) चीनी-तिब्बती
- (D) ऑस्ट्रिक

नीचे दिए गए विकल्पों में से सही उत्तर का चयन कीजिए :

- (1) (A), (B), (C), (D)
- (2) (A), (B), (D), (C)
- (3) (B), (A), (C), (D)
- (4) (B), (A), (D), (C)

Options :

- 485584158185. 1
- 485584158186. 2
- 485584158187. 3
- 485584158188. 4

Question Number : 618 Question Id : 48558439548 Question Type : MCQ Option Shuffling : No Is Question Mandatory : No Calculator : None Response Time : N.A Think Time : N.A Minimum Instruction Time : 0

Correct Marks : 5 Wrong Marks : 1

Question Key Details :

Key	Value
Comprehension	MCQ

Arrange the following mega cities in decreasing order of their population according to 2011 census.

- (A) Chennai
- (B) Delhi
- (C) Bengaluru
- (D) Kolkata

Choose the correct answer from the options given below :

- (1) (B), (D), (C), (A)
- (2) (B), (D), (A), (C)
- (3) (D), (B), (A), (C)
- (4) (D), (B), (C), (A)

Options :

- 485584158189. 1
- 485584158190. 2
- 485584158191. 3
- 485584158192. 4

Question Number : 618 Question Id : 48558439548 Question Type : MCQ Option Shuffling : No Is Question Mandatory : No Calculator : None Response Time : N.A Think Time : N.A Minimum Instruction Time : 0

Correct Marks : 5 Wrong Marks : 1

Question Key Details :

Key	Value
Comprehension	MCQ

2011 की जनगणना के आधार पर निम्न मेगा नगरों को उनकी जनसंख्या के अनुसार घटते क्रम में व्यवस्थित कीजिए।

- (A) चेन्नई
- (B) दिल्ली
- (C) बेंगलुरु
- (D) कोलकाता

नीचे दिए गए विकल्पों में से सही उत्तर का चयन कीजिए :

- (1) (B), (D), (C), (A)
- (2) (B), (D), (A), (C)
- (3) (D), (B), (A), (C)
- (4) (D), (B), (C), (A)

Options :

- 485584158189. 1
- 485584158190. 2
- 485584158191. 3
- 485584158192. 4

Question Number : 619 Question Id : 48558439549 Question Type : MCQ Option Shuffling : No Is Question Mandatory : No Calculator : None Response Time : N.A Think Time : N.A Minimum Instruction Time : 0

Correct Marks : 5 Wrong Marks : 1

Question Key Details :

Key	Value
Comprehension	MCQ

Arrange the following rivers from north to south according to their delta location.

- (A) Krishna
- (B) Godavari
- (C) Mahanadi
- (D) Kaveri

Choose the correct answer from the options given below :

- (1) (B), (C), (A), (D)
- (2) (B), (C), (D), (A)
- (3) (C), (B), (D), (A)
- (4) (C), (B), (A), (D)

Options :

- 485584158193. 1
- 485584158194. 2
- 485584158195. 3
- 485584158196. 4

Question Number : 619 Question Id : 48558439549 Question Type : MCQ Option Shuffling : No Is Question Mandatory : No Calculator : None Response Time : N.A Think Time : N.A Minimum Instruction Time : 0

Correct Marks : 5 Wrong Marks : 1

Question Key Details :

Key	Value
Comprehension	MCQ

निम्न नदियों को उनके डेल्टा की अवस्थिति के अनुसार उत्तर से दक्षिण की ओर व्यवस्थित कीजिए।

- (A) कृष्णा
- (B) गोदावरी
- (C) महानदी
- (D) कावेरी

नीचे दिए गए विकल्पों में से सही उत्तर का चयन कीजिए :

- (1) (B), (C), (A), (D)
- (2) (B), (C), (D), (A)
- (3) (C), (B), (D), (A)
- (4) (C), (B), (A), (D)

Options :

- 485584158193. 1
- 485584158194. 2
- 485584158195. 3
- 485584158196. 4

Question Number : 620 Question Id : 48558439550 Question Type : MCQ Option Shuffling : No Is Question Mandatory : No Calculator : None Response Time : N.A Think Time : N.A Minimum Instruction Time : 0

Correct Marks : 5 Wrong Marks : 1

Question Key Details :

Key	Value
Comprehension	MCQ

Arrange the developments in communication sector in chronological order.

- (A) Akashwani
- (B) Doordarshan
- (C) IRS-IA
- (D) Radio Broadcasting

Choose the correct answer from the options given below :

- (1) (A), (D), (B), (C)
- (2) (A), (D), (C), (B)
- (3) (D), (A), (B), (C)
- (4) (D), (A), (C), (B)

Options :

- 485584158197. 1
- 485584158198. 2
- 485584158199. 3
- 485584158200. 4

Question Number : 620 Question Id : 48558439550 Question Type : MCQ Option Shuffling : No Is Question Mandatory : No Calculator : None Response Time : N.A Think Time : N.A Minimum Instruction Time : 0

Correct Marks : 5 Wrong Marks : 1

Question Key Details :

Key	Value
Comprehension	MCQ

संचार क्षेत्र के विकासों को कालक्रम में व्यवस्थित कीजिए।

- (A) आकाशवाणी
- (B) दूरदर्शन
- (C) आई आर एस-IA
- (D) रेडियो प्रसारण

नीचे दिए गए विकल्पों में से सही उत्तर का चयन कीजिए :

- (1) (A), (D), (B), (C)
- (2) (A), (D), (C), (B)
- (3) (D), (A), (B), (C)
- (4) (D), (A), (C), (B)

Options :

- 485584158197. 1
- 485584158198. 2
- 485584158199. 3
- 485584158200. 4

Question Number : 621 Question Id : 48558439551 Question Type : MCQ Option Shuffling : No Is Question Mandatory : No Calculator : None Response Time : N.A Think Time : N.A Minimum Instruction Time : 0

Correct Marks : 5 Wrong Marks : 1

Question Key Details :

Key	Value
Comprehension	MCQ

Identify correct statements about land use categories.

- (A) 'Land put to non-agricultural uses' includes land under settlements, roads, industries etc.
(B) 'Cultural wasteland' include land left uncultivated for more than five years.
(C) 'Current fallow' is land which is left without cultivation for one or less than one agriculture year.
(D) 'Net area sown' is greater than the physical extent of area under crops due to multiple cropping on the same piece of land.

Choose the correct answer from the options given below :

- (1) (B), (C), (D) only
(2) (A), (B), (D) only
(3) (A), (C), (D) only
(4) (A), (B), (C) only

Options :

485584158201. 1
485584158202. 2
485584158203. 3
485584158204. 4

Question Number : 621 Question Id : 48558439551 Question Type : MCQ Option Shuffling : No Is Question Mandatory : No Calculator : None Response Time : N.A Think Time : N.A Minimum Instruction Time : 0

Correct Marks : 5 Wrong Marks : 1

Question Key Details :

Key	Value
Comprehension	MCQ

भू-उपयोग संवर्गों के बारे में सही कथनों को पहचानिए।

- (A) गैर-कृषि कार्यों में प्रयुक्त भूमि में बस्तियों, सड़कों, उद्योगों आदि के अंतर्गत भूमि सम्मिलित है।
(B) कृषि योग्य व्यर्थ भूमि में पाँच वर्षों से अधिक समय तक कृषि रहित भूमि सम्मिलित है।
(C) वर्तमान परती भूमि वह है, जो एक कृषि वर्ष या एक वर्ष से कम समय के लिए कृषि रहित छोड़ी जाती है।
(D) उसी भूमि पर बहुफसली कृषि के कारण फसल के अंतर्गत वास्तविक क्षेत्र के विस्तार से, निबल बोया गया क्षेत्र अधिक होता है।

नीचे दिए गए विकल्पों में से सही उत्तर का चयन कीजिए :

- (1) केवल (B), (C), (D)
(2) केवल (A), (B), (D)
(3) केवल (A), (C), (D)
(4) केवल (A), (B), (C)

Options :

485584158201. 1
485584158202. 2
485584158203. 3
485584158204. 4

Question Number : 622 Question Id : 48558439552 Question Type : MCQ Option Shuffling : No Is Question Mandatory : No Calculator : None Response Time : N.A Think Time : N.A Minimum Instruction Time : 0

Correct Marks : 5 Wrong Marks : 1

Question Key Details :

Key	Value
Comprehension	MCQ

Identify correct statements about cotton cultivation in India.

- (A) India grows only short staple (Indian) cotton.
- (B) Cotton is a tropical crop grown in Kharif season.
- (C) Cotton requires clear sky during flowering stage.
- (D) Its leading producers are Maharashtra, Gujarat, and Andhra Pradesh.

Choose the **correct** answer from the options given below :

- (1) (A), (B), (C) only
- (2) (A), (B), (D) only
- (3) (A), (C), (D) only
- (4) (B), (C), (D) only

Options :

- 485584158205. 1
- 485584158206. 2
- 485584158207. 3
- 485584158208. 4

Question Number : 622 Question Id : 48558439552 Question Type : MCQ Option Shuffling : No Is Question Mandatory : No Calculator : None Response Time : N.A Think Time : N.A Minimum Instruction Time : 0

Correct Marks : 5 Wrong Marks : 1

Question Key Details :

Key	Value
Comprehension	MCQ

भारत में कपास की कृषि के बारे में सही कथनों को पहचानिए।

- (A) भारत केवल छोटे रेशे वाली (भारतीय) कपास उगाता है।
- (B) कपास एक उष्णकटिबंधीय फसल है जो खरीफ ऋतु में उगायी जाती है।
- (C) कपास पर फूल आने के समय स्वच्छ आकाश की आवश्यकता होती है।
- (D) इसके अग्रणी उत्पादकों में महाराष्ट्र, गुजरात और आंध्र प्रदेश हैं।

नीचे दिए गए विकल्पों में से सही उत्तर का चयन कीजिए :

- (1) केवल (A), (B), (C)
- (2) केवल (A), (B), (D)
- (3) केवल (A), (C), (D)
- (4) केवल (B), (C), (D)

Options :

- 485584158205. 1
- 485584158206. 2
- 485584158207. 3
- 485584158208. 4

Question Number : 623 Question Id : 48558439553 Question Type : MCQ Option Shuffling : No Is Question Mandatory : No Calculator : None Response Time : N.A Think Time : N.A Minimum Instruction Time : 0

Correct Marks : 5 Wrong Marks : 1

Question Key Details :

Key	Value
Comprehension	MCQ

Match List - I with List - II.

List - I (Period)	List - II (Population Growth Characteristics)
(A) 1901 - 1921	(I) Period of Population Explosion
(B) 1921 - 1951	(II) Gradually slowing down of growth rate
(C) 1951 - 1981	(III) Period of steady Population Growth
(D) 1981 - till present	(IV) Stagnant or stationery phase of growth

Choose the correct answer from the options given below :

- (1) (A)-(III), (B)-(IV), (C)-(I), (D)-(II)
- (2) (A)-(III), (B)-(IV), (C)-(II), (D)-(I)
- (3) (A)-(IV), (B)-(III), (C)-(I), (D)-(II)
- (4) (A)-(IV), (B)-(III), (C)-(II), (D)-(I)

Options :

485584158209. 1
485584158210. 2
485584158211. 3
485584158212. 4

Question Number : 623 Question Id : 48558439553 Question Type : MCQ Option Shuffling : No Is Question Mandatory : No Calculator : None
Response Time : N.A Think Time : N.A Minimum Instruction Time : 0

Correct Marks : 5 Wrong Marks : 1

Question Key Details :

Key	Value
Comprehension	MCQ

सूची-I से सूची-II का मिलान कीजिए:

सूची-I (काल/अवधि)	सूची-II (जनसंख्या वृद्धि विशेषताएं)
(A) 1901 - 1921	(I) जनसंख्या विस्फोट का अवधि
(B) 1921 - 1951	(II) धीरे-धीरे मंद गति से घटती वृद्धि दर
(C) 1951 - 1981	(III) स्थिर जनसंख्या वृद्धि की अवधि
(D) 1981 - से आजतक	(IV) रुद्ध या स्थिर वृद्धि की प्रावस्था

नीचे दिए गए विकल्पों में से सही उत्तर का चयन कीजिए :

- (1) (A)-(III), (B)-(IV), (C)-(I), (D)-(II)
- (2) (A)-(III), (B)-(IV), (C)-(II), (D)-(I)
- (3) (A)-(IV), (B)-(III), (C)-(I), (D)-(II)
- (4) (A)-(IV), (B)-(III), (C)-(II), (D)-(I)

Options :

485584158209. 1
485584158210. 2
485584158211. 3
485584158212. 4

Question Number : 624 Question Id : 48558439554 Question Type : MCQ Option Shuffling : No Is Question Mandatory : No Calculator : None
Response Time : N.A Think Time : N.A Minimum Instruction Time : 0

Correct Marks : 5 Wrong Marks : 1

Question Key Details :

Key	Value
Comprehension	MCQ

Match List - I with List - II.

List - I (Oil Refineries)	List - II (State)
(A) Barauni	(I) Tamil Nadu
(B) Nagapattinam	(II) Gujarat
(C) Koyali	(III) Bihar
(D) Bina	(IV) Madhya Pradesh

Choose the **correct** answer from the options given below :

- (1) (A)-(I), (B)-(II), (C)-(IV), (D)-(III)
- (2) (A)-(III), (B)-(I), (C)-(II), (D)-(IV)
- (3) (A)-(III), (B)-(II), (C)-(I), (D)-(IV)
- (4) (A)-(IV), (B)-(I), (C)-(II), (D)-(III)

Options :

485584158213. 1
485584158214. 2
485584158215. 3
485584158216. 4

Question Number : 624 Question Id : 48558439554 Question Type : MCQ Option Shuffling : No Is Question Mandatory : No Calculator : None
Response Time : N.A Think Time : N.A Minimum Instruction Time : 0

Correct Marks : 5 Wrong Marks : 1

Question Key Details :

Key	Value
Comprehension	MCQ

सूची-I से सूची-II का मिलान कीजिए :

सूची-I (तेल शोधन शालाएं)	सूची-II (राज्य)
(A) बरौनी	(I) तमिलनाडु
(B) नागपट्टिनम	(II) गुजरात
(C) कोयली	(III) बिहार
(D) बीना	(IV) मध्य प्रदेश

नीचे दिए गए विकल्पों में से **सही** उत्तर का चयन कीजिए :

- (1) (A)-(I), (B)-(II), (C)-(IV), (D)-(III)
- (2) (A)-(III), (B)-(I), (C)-(II), (D)-(IV)
- (3) (A)-(III), (B)-(II), (C)-(I), (D)-(IV)
- (4) (A)-(IV), (B)-(I), (C)-(II), (D)-(III)

Options :

485584158213. 1
485584158214. 2
485584158215. 3
485584158216. 4

Question Number : 625 Question Id : 48558439555 Question Type : MCQ Option Shuffling : No Is Question Mandatory : No Calculator : None
Response Time : N.A Think Time : N.A Minimum Instruction Time : 0

Correct Marks : 5 Wrong Marks : 1

Question Key Details :

Key	Value
Comprehension	MCQ

Match List - I with List - II.

List - I

(Water ways)

- (A) National waterway 1
(B) National waterway 2
(C) National waterway 3
(D) National waterway 4

List - II

(Stretch)

- (I) Specified stretches of Godavari - Krishna rivers along with Kakinada, Puducherry stretch of canal
(II) Kottapuram - Kollam
(III) Allahabad - Haldia
(IV) Sadiya - Dhubri

Choose the correct answer from the options given below :

- (1) (A)-(II), (B)-(III), (C)-(I), (D)-(IV)
(2) (A)-(III), (B)-(II), (C)-(IV), (D)-(I)
(3) (A)-(I), (B)-(IV), (C)-(II), (D)-(III)
(4) (A)-(III), (B)-(IV), (C)-(II), (D)-(I)

Options :

485584158217. 1
485584158218. 2
485584158219. 3
485584158220. 4

Question Number : 625 Question Id : 48558439555 Question Type : MCQ Option Shuffling : No Is Question Mandatory : No Calculator : None
Response Time : N.A Think Time : N.A Minimum Instruction Time : 0

Correct Marks : 5 Wrong Marks : 1

Question Key Details :

Key	Value
Comprehension	MCQ

सूची-I से सूची-II का मिलान कीजिए :

सूची-I

(जलमार्ग)

- (A) राष्ट्रीय जलमार्ग 1
(B) राष्ट्रीय जलमार्ग 2
(C) राष्ट्रीय जलमार्ग 3
(D) राष्ट्रीय जलमार्ग 4

सूची-II

(विस्तार)

- (I) काकीनाड़ा और पुदुच्चेरी नहर स्ट्रेच के साथ-साथ गोदावरी-कृष्णा नदी का विशेष विस्तार
(II) कोट्टापुरम्-कोलम
(III) इलाहाबाद-हल्दिया
(IV) सदिया-धुबरी

नीचे दिए गए विकल्पों में से सही उत्तर का चयन कीजिए :

- (1) (A)-(II), (B)-(III), (C)-(I), (D)-(IV)
(2) (A)-(III), (B)-(II), (C)-(IV), (D)-(I)
(3) (A)-(I), (B)-(IV), (C)-(II), (D)-(III)
(4) (A)-(III), (B)-(IV), (C)-(II), (D)-(I)

Options :

485584158217. 1
485584158218. 2
485584158219. 3

485584158220. 4

Sub-Section Number : 2
Sub-Section Id : 4855842935
Question Shuffling Allowed : No
Is Section Default? : null

Question Number : 626 Question Id : 48558439556 Question Type : MCQ Option Shuffling : No Is Question Mandatory : No Calculator : None
Response Time : N.A Think Time : N.A Minimum Instruction Time : 0

Correct Marks : 5 Wrong Marks : 1

Question Key Details :

Key	Value
Comprehension	Compl

Read the given passage carefully and answer the following question :

Depending on the mode of occurrence and the nature of the ore, mining is of two types: surface and underground mining. The surface mining also known as open-cast mining is the easiest and the cheapest way of mining minerals that occur close to the surface. Overhead costs such as safety precaution and equipment is relatively low in this method. The output is both large and rapid.

When the ore lies deep below the surfaces, **underground mining method** (shaft method) has to be used. In this method, vertical shafts have to be sunk, from where underground galleries radiate to reach the minerals. Minerals are extracted and transported to the surface through these passages. It requires specially designed lifts, drills, haulage vehicles, ventilation system for safety and efficient movement of people and material. This method is risky. Poisonous gases, fires, floods and caving in lead to fatal accidents.

The developed economies are retreating from mining, processing and refining stages of production due to high labour costs, while the developing countries with large labour force and striving for higher standard of living are becoming more important. Several countries of Africa and few of south America and Asia have over fifty per cent of the earnings from minerals alone.

Which one of the following method of mining is cheapest ?

- (1) Underground mining
- (2) Open-cast mining
- (3) Drill mining
- (4) Underground mining with different approaches

Options :

485584158221. 1
485584158222. 2
485584158223. 3
485584158224. 4

Question Number : 626 Question Id : 48558439556 Question Type : MCQ Option Shuffling : No Is Question Mandatory : No Calculator : None
Response Time : N.A Think Time : N.A Minimum Instruction Time : 0

Correct Marks : 5 Wrong Marks : 1

Question Key Details :

Key	Value
Comprehension	Compl

दिए गए गद्यांश को ध्यानपूर्वक पढ़िए और निम्न प्रश्नों के उत्तर दीजिए।

उपस्थिति की अवस्था एवं अयस्क की प्रकृति के आधार पर खनन के दो प्रकार हैं: धरातलीय एवं भूमिगत खनन। धरातलीय को विवृत खनन भी कहा जाता है। यह सतह के पास पाए जाने वाले खनिजों के खनन का सबसे आसान और सस्ता तरीका है, क्योंकि इस विधि में सुरक्षात्मक पूर्वोपायों एवं उपकरणों पर अतिरिक्त खर्च अपेक्षाकृत कम होता है। उत्पादन शीघ्र व अधिक होता है।

जब अयस्क धरातल के नीचे गहराई में होता है तब भूमिगत अथवा कूपकी खनन विधि का प्रयोग किया जाता है। इस विधि में लंबवत् कूपक गहराई तक स्थित हैं, जहाँ से भूमिगत गैलरियाँ खनिजों तक पहुंचने के लिए फैली हैं। इन मार्गों से होकर खनिजों का निष्कर्षण एवं परिवहन धरातल तक किया जाता है। खदान में कार्य करने वाले श्रमिकों तथा निकाले जाने वाले खनिजों के सुरक्षित और प्रभावी आवागमन हेतु इसमें विशेष प्रकार की लिफ्ट, बेधक (बरमा), माल ढोने की गाड़ियाँ तथा वायु संचार प्रणाली की आवश्यकता होती है। खनन का यह तरीका जोखिम भरा है क्योंकि जहरीली गैसों, आग एवं बाढ़ के कारण कई बार दुर्घटनाएँ होने का भय रहता है।

विकसित अर्थव्यवस्था वाले देश उत्पादन की खनन, प्रसंस्करण एवं शोधन कार्य से पीछे हट रहे हैं क्योंकि इसमें श्रमिक लागत अधिक आने लगी है। जबकि विकासशील देश अपने विशाल श्रमिक शक्ति के बल पर अपने देशवासियों के ऊँचे रहन-सहन को बनाए रखने के लिए खनन कार्य को महत्व दे रहे हैं। अफ्रीका के कई देश, दक्षिण अमेरिका के कुछ देश एवं एशिया में आय के साधनों का पचास प्रतिशत तक खनन कार्य से प्राप्त होता है।

निम्न में से खनन की कौन सी विधि सबसे सस्ती है ?

- (1) भूमिगत खनन
- (2) विवृत (धरातलीय) खनन
- (3) ड्रिल (बेधन) खनन
- (4) विभिन्न तरीकों के साथ भूमिगत खनन

Options :

485584158221. 1

485584158222. 2

485584158223. 3

485584158224. 4

Question Number : 627 Question Id : 48558439557 Question Type : MCQ Option Shuffling : No Is Question Mandatory : No Calculator : None Response Time : N.A Think Time : N.A Minimum Instruction Time : 0

Correct Marks : 5 Wrong Marks : 1

Question Key Details :

Key	Value
Comprehension	Compl

Read the given passage carefully and answer the following question :

Depending on the mode of occurrence and the nature of the ore, mining is of two types: surface and underground mining. The surface mining also known as open-cast mining is the easiest and the cheapest way of mining minerals that occur close to the surface. Overhead costs such as safety precaution and equipment is relatively low in this method. The output is both large and rapid.

When the ore lies deep below the surfaces, **underground mining method** (shaft method) has to be used. In this method, vertical shafts have to be sunk, from where underground galleries radiate to reach the minerals. Minerals are extracted and transported to the surface through these passages. It requires specially designed lifts, drills, haulage vehicles, ventilation system for safety and efficient movement of people and material. This method is risky. Poisonous gases, fires, floods and caving in lead to fatal accidents.

The developed economies are retreating from mining, processing and refining stages of production due to high labour costs, while the developing countries with large labour force and striving for higher standard of living are becoming more important. Several countries of Africa and few of south America and Asia have over fifty per cent of the earnings from minerals alone.

Which one of the following is **not** correct statement about surface mining ?

- (1) It is also known as open cast mining
- (2) It is easiest way of extraction
- (3) It is cheapest way of mining
- (4) Its safety cost is very high

Options :

485584158225. 1

485584158226. 2

485584158227. 3

485584158228. 4

Question Number : 627 Question Id : 48558439557 Question Type : MCQ Option Shuffling : No Is Question Mandatory : No Calculator : None Response Time : N.A Think Time : N.A Minimum Instruction Time : 0

Correct Marks : 5 Wrong Marks : 1

Question Key Details :

Key	Value
Comprehension	Comp1

दिए गए गद्यांश को ध्यानपूर्वक पढ़िए और निम्न प्रश्नों के उत्तर दीजिए।

उपस्थिति की अवस्था एवं अयस्क की प्रकृति के आधार पर खनन के दो प्रकार हैं: धरातलीय एवं भूमिगत खनन। धरातलीय को विवृत खनन भी कहा जाता है। यह सतह के पास पाए जाने वाले खनिजों के खनन का सबसे आसान और सस्ता तरीका है, क्योंकि इस विधि में सुरक्षात्मक पूर्वोपायों एवं उपकरणों पर अतिरिक्त खर्च अपेक्षाकृत कम होता है। उत्पादन शीघ्र व अधिक होता है।

जब अयस्क धरातल के नीचे गहराई में होता है तब भूमिगत अथवा कूपकी खनन विधि का प्रयोग किया जाता है। इस विधि में लंबवत् कूपक गहराई तक स्थित हैं, जहाँ से भूमिगत गैलरियाँ खनिजों तक पहुंचने के लिए फैली हैं। इन मार्गों से होकर खनिजों का निष्कर्षण एवं परिवहन धरातल तक किया जाता है। खदान में कार्य करने वाले श्रमिकों तथा निकाले जाने वाले खनिजों के सुरक्षित और प्रभावी आवागमन हेतु इसमें विशेष प्रकार की लिफ्ट, बेधक (बरमा), माल ढोने की गाड़ियाँ तथा वायु संचार प्रणाली की आवश्यकता होती है। खनन का यह तरीका जोखिम भरा है क्योंकि जहरीली गैसों, आग एवं बाढ़ के कारण कई बार दुर्घटनाएँ होने का भय रहता है।

विकसित अर्थव्यवस्था वाले देश उत्पादन की खनन, प्रसंस्करण एवं शोधन कार्य से पीछे हट रहे हैं क्योंकि इसमें श्रमिक लागत अधिक आने लगी है। जबकि विकासशील देश अपने विशाल श्रमिक शक्ति के बल पर अपने देशवासियों के ऊँचे रहन-सहन को बनाए रखने के लिए खनन कार्य को महत्व दे रहे हैं। अफ्रीका के कई देश, दक्षिण अमेरिका के कुछ देश एवं एशिया में आय के साधनों का पचास प्रतिशत तक खनन कार्य से प्राप्त होता है।

धरातलीय खनन के बारे में, निम्न में से कौन सा कथन सत्य नहीं है?

- (1) इसे विवृत खनन के रूप में भी जाना जाता है
- (2) यह निष्कर्षण का सरलतम तरीका है
- (3) यह खनन का सबसे सस्ता तरीका है
- (4) इसकी सुरक्षा लागत बहुत ऊँची है

Options :

485584158225. 1
485584158226. 2
485584158227. 3
485584158228. 4

Question Number : 628 Question Id : 48558439558 Question Type : MCQ Option Shuffling : No Is Question Mandatory : No Calculator : None
Response Time : N.A Think Time : N.A Minimum Instruction Time : 0

Correct Marks : 5 Wrong Marks : 1

Question Key Details :

Key	Value
Comprehension	Compl

Read the given passage carefully and answer the following question :

Depending on the mode of occurrence and the nature of the ore, mining is of two types: surface and underground mining. The surface mining also known as open-cast mining is the easiest and the cheapest way of mining minerals that occur close to the surface. Overhead costs such as safety precaution and equipment is relatively low in this method. The output is both large and rapid.

When the ore lies deep below the surfaces, **underground mining method** (shaft method) has to be used. In this method, vertical shafts have to be sunk, from where underground galleries radiate to reach the minerals. Minerals are extracted and transported to the surface through these passages. It requires specially designed lifts, drills, haulage vehicles, ventilation system for safety and efficient movement of people and material. This method is risky. Poisonous gases, fires, floods and caving in lead to fatal accidents.

The developed economies are retreating from mining, processing and refining stages of production due to high labour costs, while the developing countries with large labour force and striving for higher standard of living are becoming more important. Several countries of Africa and few of south America and Asia have over fifty per cent of the earnings from minerals alone.

The developed countries are avoiding mining in their own countries due to :

- (1) poor availability of minerals
- (2) lack of technology to mine
- (3) high labour costs
- (4) people are not interested in mining

Options :

485584158229. 1

485584158230. 2

485584158231. 3

485584158232. 4

Question Number : 628 Question Id : 48558439558 Question Type : MCQ Option Shuffling : No Is Question Mandatory : No Calculator : None
Response Time : N.A Think Time : N.A Minimum Instruction Time : 0

Correct Marks : 5 Wrong Marks : 1

Question Key Details :

Key	Value
Comprehension	Comp1

दिष्ट गू गदुडरश कु धुडरनुडूरुवकु डदुडर और नरनु डुरशुनु के उतरु दुरुऑरु।

उडुररुथरतरु कु अवसुथरु एवं अडुसुकु कु डुरकृतरु के आधरु डुर खनन के दु डुरकरु हूँ: धररतलुडु एवं डुडुडुगतु खनन। धररतलुडु कु वरुवृतु खनन डु कहरु ऑरु। डुह सतुह के डुररु डुररु ऑरु डुररु खनरुनु के खनन करु सडुसु आसुतरु और ससुतरु तरुकरु हूँ, कुडुडुऑरु इस वरुधरु डुरु सुरकुषरतुडुकु डुरूडुडुडु एवं उडुकरुणु डुरु अतरररुवकु खरुचु अडुकुषरकृतु कुडु हुतरु हूँ। उतुडुडुडुन शुरुडुडु व अडुधक हुतरु हूँ।

ऑरु अडुसुकु धररतलु के नुडुके गहरररुडु डुरु हुतरु हूँ तडु डुडुडुडुगतु अथवु कुडुडुडु कु खनन वरुधरु करु डुररुडुडु कुररुडु ऑरु। इस वरुधरु डुरु लंडुवतु कुडुडुडु गहरररुडु तक सुथरुत हूँ, ऑरु डुरु डुडुडुडुगतु गूलररुडुडु खनरुनुनु तक डुरुहुंडुने के लरुडु डुरुडुलु हूँ। इन डुरुगु डुरु हुकरु खनरुनुनु करु नरुडुकरुषण एवं डुरुवरुवहन धररतलु तक कुररुडु ऑरु। खदुडुन डुरु करुडु करुने वरुले शुरडुडुडुनुनु तथु नरुकरुले ऑरुने वरुले खनरुनुनु के सुरकुषरतु और डुरुडुडुवु आवरुगडुन हेतु इसडुरु वरुशुडु डुरकरु कुरु लरुडुडु, डुधक (डुरुडु), डुरुलु दुुने कुरु गुरुडुडुडु तथु वरुडु सुंडुकरु डुररुणरुलु कुरु आवरुशुडुकरुतु हुतरु हूँ। खनन करु डुह तरुकरु ऑरुखरुडु डुरु हूँ कुडुडुऑरु ऑरुहुरुलु गूसुँ, आग एवं डुरुदु के करुण कुरु डुरु वरु दुुरुघटनुऑु हुने करु डुडु रहतु हूँ।

वरुकसुतरु अरुथुवुडुवसुथरु वरुले दुशु उतुडुडुडुन कुरु खनन, डुरसुंडुकरुण एवं शुरुडुधन करुडु से डुरुडुके हट रहे हूँ कुडुडुऑरु इसडुरु शुरडुडुडु लरुगतु अडुधक आने लरुगु हूँ। ऑरुकरु वरुकरुसशुलु दुशु अडुने वरुशुलु शुरडुडुडु शकुतरु के डुल डुरु अडुने दुशुवरुसुडुनुनु के ऊँके रहनु-सहन कु डुरुनरु ऑरुखने के लरुडु खनन करुडु कु डुरुहतुव दे रहे हूँ। अडुरुनुकरु के कुरु दुशु, दुरुकुषण अडुडुरुकरु के कुडु दुशु एवं एशुडुडु डुरु आडु के सुरुधनुनु करु डुरुकरुस डुरुतरुशतु तक खनन करुडु से डुरुरु हुतरु हूँ।

वरुकसुतरु दुशु, अडुने दुशु डुरु खनन करुडु से, इस करुण से डुरुडुके हट रहे हूँ :

- (1) खनरुनुनु कु कुडु उडुलडुडुधतु
- (2) खनन तकनुक (डुरुडुडुगुकरु) कु कुडु
- (3) उकु शुरडुडुडु लरुगतु
- (4) लुगुनु कु खनन करुडु डुरु रुकु नरुडु हूँ

Options :

485584158229. 1

485584158230. 2

485584158231. 3

485584158232. 4

Question Number : 629 Question Id : 48558439559 Question Type : MCQ Option Shuffling : No Is Question Mandatory : No Calculator : None Response Time : N.A Think Time : N.A Minimum Instruction Time : 0

Correct Marks : 5 Wrong Marks : 1

Question Key Details :

Key	Value
Comprehension	Comp1

Read the given passage carefully and answer the following question :

Depending on the mode of occurrence and the nature of the ore, mining is of two types: surface and underground mining. The surface mining also known as open-cast mining is the easiest and the cheapest way of mining minerals that occur close to the surface. Overhead costs such as safety precaution and equipment is relatively low in this method. The output is both large and rapid.

When the ore lies deep below the surfaces, **underground mining method** (shaft method) has to be used. In this method, vertical shafts have to be sunk, from where underground galleries radiate to reach the minerals. Minerals are extracted and transported to the surface through these passages. It requires specially designed lifts, drills, haulage vehicles, ventilation system for safety and efficient movement of people and material. This method is risky. Poisonous gases, fires, floods and caving in lead to fatal accidents.

The developed economies are retreating from mining, processing and refining stages of production due to high labour costs, while the developing countries with large labour force and striving for higher standard of living are becoming more important. Several countries of Africa and few of south America and Asia have over fifty per cent of the earnings from minerals alone.

Which one of the following component is not applicable to underground mining method ?

- (1) Specially designed lifts
- (2) Good ventilation system
- (3) Mineral availability near the surface
- (4) Haulage vehicles

Options :

485584158233. 1

485584158234. 2

485584158235. 3

485584158236. 4

Question Number : 629 Question Id : 48558439559 Question Type : MCQ Option Shuffling : No Is Question Mandatory : No Calculator : None Response Time : N.A Think Time : N.A Minimum Instruction Time : 0

Correct Marks : 5 Wrong Marks : 1

Question Key Details :

Key	Value
Comprehension	Comp1

दिए गए गद्यांश को ध्यानपूर्वक पढ़िए और निम्न प्रश्नों के उत्तर दीजिए।

उपस्थिति की अवस्था एवं अयस्क की प्रकृति के आधार पर खनन के दो प्रकार हैं: धरातलीय एवं भूमिगत खनन। धरातलीय को विवृत खनन भी कहा जाता है। यह सतह के पास पाए जाने वाले खनिजों के खनन का सबसे आसान और सस्ता तरीका है, क्योंकि इस विधि में सुरक्षात्मक पूर्वोपायों एवं उपकरणों पर अतिरिक्त खर्च अपेक्षाकृत कम होता है। उत्पादन शीघ्र व अधिक होता है।

जब अयस्क धरातल के नीचे गहराई में होता है तब भूमिगत अथवा कूपकी खनन विधि का प्रयोग किया जाता है। इस विधि में लंबवत् कूपक गहराई तक स्थित हैं, जहाँ से भूमिगत गैलरियाँ खनिजों तक पहुंचने के लिए फैली हैं। इन मार्गों से होकर खनिजों का निष्कर्षण एवं परिवहन धरातल तक किया जाता है। खदान में कार्य करने वाले श्रमिकों तथा निकाले जाने वाले खनिजों के सुरक्षित और प्रभावी आवागमन हेतु इसमें विशेष प्रकार की लिफ्ट, बेधक (बरमा), माल ढोने की गाड़ियाँ तथा वायु संचार प्रणाली की आवश्यकता होती है। खनन का यह तरीका जोखिम भरा है क्योंकि जहरीली गैसों, आग एवं बाढ़ के कारण कई बार दुर्घटनाएँ होने का भय रहता है।

विकसित अर्थव्यवस्था वाले देश उत्पादन की खनन, प्रसंस्करण एवं शोधन कार्य से पीछे हट रहे हैं क्योंकि इसमें श्रमिक लागत अधिक आने लगी है। जबकि विकासशील देश अपने विशाल श्रमिक शक्ति के बल पर अपने देशवासियों के ऊँचे रहन-सहन को बनाए रखने के लिए खनन कार्य को महत्व दे रहे हैं। अफ्रीका के कई देश, दक्षिण अमेरिका के कुछ देश एवं एशिया में आय के साधनों का पचास प्रतिशत तक खनन कार्य से प्राप्त होता है।

निम्न में से कौन सा एक घटक भूमिगत खनन विधि पर लागू नहीं है?

- (1) विशेष प्रकार की लिफ्ट
- (2) बेहतर वायु संचार प्रणाली
- (3) सतह (धरातल) के निकट खनिज उपलब्धता
- (4) माल ढोने की गाड़ियाँ

Options :

485584158233. 1

485584158234. 2

485584158235. 3

485584158236. 4

Question Number : 630 Question Id : 48558439560 Question Type : MCQ Option Shuffling : No Is Question Mandatory : No Calculator : None Response Time : N.A Think Time : N.A Minimum Instruction Time : 0

Correct Marks : 5 Wrong Marks : 1

Question Key Details :

Key	Value
Comprehension	Comp1

Read the given passage carefully and answer the following question :

Depending on the mode of occurrence and the nature of the ore, mining is of two types: surface and underground mining. The surface mining also known as open-cast mining is the easiest and the cheapest way of mining minerals that occur close to the surface. Overhead costs such as safety precaution and equipment is relatively low in this method. The output is both large and rapid.

When the ore lies deep below the surfaces, **underground mining method** (shaft method) has to be used. In this method, vertical shafts have to be sunk, from where underground galleries radiate to reach the minerals. Minerals are extracted and transported to the surface through these passages. It requires specially designed lifts, drills, haulage vehicles, ventilation system for safety and efficient movement of people and material. This method is risky. Poisonous gases, fires, floods and caving in lead to fatal accidents.

The developed economies are retreating from mining, processing and refining stages of production due to high labour costs, while the developing countries with large labour force and striving for higher standard of living are becoming more important. Several countries of Africa and few of south America and Asia have over fifty per cent of the earnings from minerals alone.

Mining activity comes under _____.

- (1) Primary activity
- (2) Secondary activity
- (3) Tertiary activity
- (4) Quaternary activity

Options :

- 485584158237. 1
- 485584158238. 2
- 485584158239. 3
- 485584158240. 4

Question Number : 630 Question Id : 48558439560 Question Type : MCQ Option Shuffling : No Is Question Mandatory : No Calculator : None Response Time : N.A Think Time : N.A Minimum Instruction Time : 0

Correct Marks : 5 Wrong Marks : 1

Question Key Details :

Key	Value
Comprehension	Comp1

दिए गए गद्यांश को ध्यानपूर्वक पढ़िए और निम्न प्रश्नों के उत्तर दीजिए।

उपस्थिति की अवस्था एवं अयस्क की प्रकृति के आधार पर खनन के दो प्रकार हैं: धरातलीय एवं भूमिगत खनन। धरातलीय को विवृत खनन भी कहा जाता है। यह सतह के पास पाए जाने वाले खनिजों के खनन का सबसे आसान और सस्ता तरीका है, क्योंकि इस विधि में सुरक्षात्मक पूर्वोपायों एवं उपकरणों पर अतिरिक्त खर्च अपेक्षाकृत कम होता है। उत्पादन शीघ्र व अधिक होता है।

जब अयस्क धरातल के नीचे गहराई में होता है तब भूमिगत अथवा कूपकी खनन विधि का प्रयोग किया जाता है। इस विधि में लंबवत् कूपक गहराई तक स्थित हैं, जहाँ से भूमिगत गैलरियाँ खनिजों तक पहुंचने के लिए फैली हैं। इन मार्गों से होकर खनिजों का निष्कर्षण एवं परिवहन धरातल तक किया जाता है। खदान में कार्य करने वाले श्रमिकों तथा निकाले जाने वाले खनिजों के सुरक्षित और प्रभावी आवागमन हेतु इसमें विशेष प्रकार की लिफ्ट, बेधक (बरमा), माल ढोने की गाड़ियाँ तथा वायु संचार प्रणाली की आवश्यकता होती है। खनन का यह तरीका जोखिम भरा है क्योंकि जहरीली गैसों, आग एवं बाढ़ के कारण कई बार दुर्घटनाएँ होने का भय रहता है।

विकसित अर्थव्यवस्था वाले देश उत्पादन की खनन, प्रसंस्करण एवं शोधन कार्य से पीछे हट रहे हैं क्योंकि इसमें श्रमिक लागत अधिक आने लगी है। जबकि विकासशील देश अपने विशाल श्रमिक शक्ति के बल पर अपने देशवासियों के ऊँचे रहन-सहन को बनाए रखने के लिए खनन कार्य को महत्व दे रहे हैं। अफ्रीका के कई देश, दक्षिण अमेरिका के कुछ देश एवं एशिया में आय के साधनों का पचास प्रतिशत तक खनन कार्य से प्राप्त होता है।

खनन क्रिया _____ के अंतर्गत आती है।

- (1) प्राथमिक क्रिया
- (2) द्वितीयक क्रिया
- (3) तृतीयक क्रिया
- (4) चतुर्थक क्रिया

Options :

485584158237. 1
485584158238. 2
485584158239. 3
485584158240. 4

Sub-Section Number : 3
Sub-Section Id : 4855842936
Question Shuffling Allowed : No
Is Section Default? : null

Question Number : 631 Question Id : 48558439561 Question Type : MCQ Option Shuffling : No Is Question Mandatory : No Calculator : None
Response Time : N.A Think Time : N.A Minimum Instruction Time : 0

Correct Marks : 5 Wrong Marks : 1

Question Key Details :

Key	Value
Comprehension	Comp2

Read the given passage carefully and answer the following question :

Based on the universal law "Polluter pays", effect to restore the ecology and safeguard the human health with people's participation has taken place in Daurala near Meerut. These efforts are now bearing fruits after a span of three years when Meerut based NGO had developed a model for ecological restoration. The meeting of the Daurala Industries officials, NGOs, Government officials and other stakeholders at Meerut has brought out results. The powerful logics, authentic studies and the pressure of people have brought a new lease of life to the twelve thousand residents of this village. It was in the year 2003 that the pitiable condition of Dauralaities drew the attention of the civil society. The groundwater of this village was contaminated with heavy metals. The reason was that the untreated waste water of Daurala industries was leaching to the groundwater table. The NGO conducted a door to door survey of the health status of the residents and came out with a report. The organisation, the village community and people's representatives sat together to find out sustainable solutions to the health problem. The industrialists showed a keen interest towards checking the deteriorating ecology. The overhead water tank's capacity in the village was enhanced and a 900m extra pipeline was laid to supply potable water to the community. The silted pond of the village was cleaned and recharged by distilling it. Large quantity of silt was removed paving way to large quantity of water so that it recharged the aquifers. Rainwater harvesting structures have been constructed at different places which has helped in diluting the contaminants of the groundwater after the monsoons. 1000 trees have also been planted which have improved the environment.

The case study on Daurala is based on which universal law ?

- (1) Polluter suffers
- (2) Polluter pays
- (3) Polluter gains
- (4) Polluter losses

Options :

- 485584158241. 1
- 485584158242. 2
- 485584158243. 3
- 485584158244. 4

Question Number : 631 Question Id : 48558439561 Question Type : MCQ Option Shuffling : No Is Question Mandatory : No Calculator : None
Response Time : N.A Think Time : N.A Minimum Instruction Time : 0

Correct Marks : 5 Wrong Marks : 1

Question Key Details :

Key	Value
Comprehension	Comp2

दिए गए गद्यांशों को ध्यानपूर्वक पढ़िए और निम्न प्रश्नों के उत्तर दीजिए ।

'प्रदूषक भोगता है' के वैश्विक नियम के आधार पर मेरठ के निकट दौराला में लोगों की प्रतिभागिता के सहारे पारिस्थितिकी के पुनर्भरण और मानव स्वास्थ्य की सुरक्षा के लिए प्रयास किया गया है। मेरठ के एक गैर सरकारी संगठन (एन.जी.ओ.) द्वारा पारिस्थितिकी पुनर्भरण के एक मॉडल की रचना के तीन वर्ष बाद परिणाम आने आरंभ हो गए। दौराला स्थित उद्योगों के पदाधिकारियों, गैर-सरकारी संगठनों, सरकारी अधिकारियों और अन्य पदाधिकारियों की मेरठ में हुई मीटिंग में परिणाम सामने आए। यह सन् 2003 की बात है जब दौरालावासियों की दयनीय दशा ने एक जनहित सभा (सिविल सोसायटी) का ध्यान आकृष्ट किया। 12,000 लोगों की जनसंख्या वाले इस गाँव का भू-जल भारी धातुओं के संपर्क से संदूषित हो चुका था। इस कारण यह था कि दौराला के उद्योगों के अनुपचारित अपशिष्ट जल का भू-जल स्तर में निक्षालन हो रहा था। एन.जी.ओ. के कार्यकर्ताओं ने घर-घर जाकर लोगों के स्वास्थ्य-स्तर संबंधी सर्वेक्षण किया और एक रिपोर्ट बनाई। उस संगठन, ग्रामीण समुदाय और जन-प्रतिनिधियों के आपस में बैठकर इन समस्याओं के टिकाऊ समाधान ढूँढने का प्रयास किया। उद्योगपतियों ने पारिस्थितिकी की गिरती दशा को नियंत्रित करने में गहरी रुचि दिखाई। गाँव की उपरली टंकी (over hand tank) की क्षमता बढ़ाई गई और समुदाय को पीने योग्य जल उपलब्ध कराने के लिए 900 मीटर की अतिरिक्त पाइपलाइन बिछाई गई। गाँव के गाद-युक्त तालाब को साफ किया गया और इसे गाद-विमुक्त करके पुनः जल से भरा गया जगह-जगह वर्षा-जल संग्रहण की संरचनाएँ बनाई गईं। जिनसे मानसून के पश्चात् भू-जल के संदूषक में कमी आई। एक हजार वृक्षों की लगाए गए जिनसे पर्यावरण का संवर्धन हुआ।

दौराला केस अध्ययन किस वैश्विक नियम पर आधारित है ?

- (1) प्रदूषक पीड़ित होता है
- (2) प्रदूषक भोगता है
- (3) प्रदूषक लाभ प्राप्त करता है
- (4) प्रदूषक हानि उठाता है

Options :

485584158241. 1

485584158242. 2

485584158243. 3

485584158244. 4

Question Number : 632 Question Id : 48558439562 Question Type : MCQ Option Shuffling : No Is Question Mandatory : No Calculator : None Response Time : N.A Think Time : N.A Minimum Instruction Time : 0

Correct Marks : 5 Wrong Marks : 1

Question Key Details :

Key	Value
Comprehension	Comp2

Read the given passage carefully and answer the following question :

Based on the universal law "Polluter pays", effect to restore the ecology and safeguard the human health with people's participation has taken place in Daurala near Meerut. These efforts are now bearing fruits after a span of three years when Meerut based NGO had developed a model for ecological restoration. The meeting of the Daurala Industries officials, NGOs, Government officials and other stakeholders at Meerut has brought out results. The powerful logics, authentic studies and the pressure of people have brought a new lease of life to the twelve thousand residents of this village. It was in the year 2003 that the pitiable condition of Dauralaities drew the attention of the civil society. The groundwater of this village was contaminated with heavy metals. The reason was that the untreated waste water of Daurala industries was leaching to the groundwater table. The NGO conducted a door to door survey of the health status of the residents and came out with a report. The organisation, the village community and people's representatives sat together to find out sustainable solutions to the health problem. The industrialists showed a keen interest towards checking the deteriorating ecology. The overhead water tank's capacity in the village was enhanced and a 900m extra pipeline was laid to supply potable water to the community. The silted pond of the village was cleaned and recharged by distilling it. Large quantity of silt was removed paving way to large quantity of water so that it recharged the aquifers. Rainwater harvesting structures have been constructed at different places which has helped in diluting the contaminants of the groundwater after the monsoons. 1000 trees have also been planted which have improved the environment.

Name the model developed by a non-governmental organisation in Daurala.

- (1) Ecological imbalance
- (2) Ecological restoration
- (3) Ecological succession
- (4) Ecological development

Options :

- 485584158245. 1
- 485584158246. 2
- 485584158247. 3
- 485584158248. 4

Question Number : 632 Question Id : 48558439562 Question Type : MCQ Option Shuffling : No Is Question Mandatory : No Calculator : None Response Time : N.A Think Time : N.A Minimum Instruction Time : 0

Correct Marks : 5 Wrong Marks : 1

Question Key Details :

Key	Value
Comprehension	Comp2

दिष्ट गए गद्यशों को ध्यानपूर्वक पढ़िए और निम्न प्रश्नों के उत्तर दीजिए ।

'प्रदूषक भोगता है' के वैश्विक नियम के आधार पर मेरठ के निकट दौराला में लोगों की प्रतिभागिता के सहारे पारिस्थितिकी के पुनर्भरण और मानव स्वास्थ्य की सुरक्षा के लिए प्रयास किया गया है। मेरठ के एक गैर सरकारी संगठन (एन.जी.ओ.) द्वारा पारिस्थितिकी पुनर्भरण के एक मॉडल की रचना के तीन वर्ष बाद परिणाम आने आरंभ हो गए। दौराला स्थित उद्योगों के पदाधिकारियों, गैर-सरकारी संगठनों, सरकारी अधिकारियों और अन्य पदाधिकारियों की मेरठ में हुई मीटिंग में परिणाम सामने आए। यह सन् 2003 की बात है जब दौरालावासियों की दयनीय दशा ने एक जनहित सभा (सिविल सोसायटी) का ध्यान आकृष्ट किया। 12,000 लोगों की जनसंख्या वाले इस गाँव का भू-जल भारी धातुओं के संपर्क से संदूषित हो चुका था। इस कारण यह था कि दौराला के उद्योगों के अनुपचारित अपशिष्ट जल का भू-जल स्तर में निक्षालन हो रहा था। एन.जी.ओ. के कार्यकर्ताओं ने घर-घर जाकर लोगों के स्वास्थ्य-स्तर संबंधी सर्वेक्षण किया और एक रिपोर्ट बनाई। उस संगठन, ग्रामीण समुदाय और जन-प्रतिनिधियों के आपस में बैठकर इन समस्याओं के टिकाऊ समाधान ढूँढने का प्रयास किया। उद्योगपतियों ने पारिस्थितिकी की गिरती दशा को नियंत्रित करने में गहरी रुचि दिखाई। गाँव की उपरली टंकी (over hand tank) की क्षमता बढ़ाई गई और समुदाय को पीने योग्य जल उपलब्ध कराने के लिए 900 मीटर की अतिरिक्त पाइपलाइन बिछाई गई। गाँव के गाद-युक्त तालाब को साफ किया गया और इसे गाद-विमुक्त करके पुनः जल से भरा गया जगह-जगह वर्षा-जल संग्रहण की संरचनाएं बनाई गईं। जिनसे मानसून के पश्चात् भू-जल के संदूषक में कमी आई। एक हजार वृक्षों की लगाए गए जिनसे पर्यावरण का संवर्धन हुआ।

दौराला में गैर-सरकारी संगठन द्वारा विकसित मॉडल (प्रारूप) का नाम है :

- (1) पारिस्थितिकी असंतुलन
- (2) पारिस्थितिकी पुनर्भरण
- (3) पारिस्थितिकी अनुक्रमण
- (4) पारिस्थितिकी विकास

Options :

485584158245. 1

485584158246. 2

485584158247. 3

485584158248. 4

Question Number : 633 Question Id : 48558439563 Question Type : MCQ Option Shuffling : No Is Question Mandatory : No Calculator : None Response Time : N.A Think Time : N.A Minimum Instruction Time : 0

Correct Marks : 5 Wrong Marks : 1

Question Key Details :

Key	Value
Comprehension	Comp2

Read the given passage carefully and answer the following question :

Based on the universal law "Polluter pays", effect to restore the ecology and safeguard the human health with people's participation has taken place in Daurala near Meerut. These efforts are now bearing fruits after a span of three years when Meerut based NGO had developed a model for ecological restoration. The meeting of the Daurala Industries officials, NGOs, Government officials and other stakeholders at Meerut has brought out results. The powerful logics, authentic studies and the pressure of people have brought a new lease of life to the twelve thousand residents of this village. It was in the year 2003 that the pitiable condition of Dauralaities drew the attention of the civil society. The groundwater of this village was contaminated with heavy metals. The reason was that the untreated waste water of Daurala industries was leaching to the groundwater table. The NGO conducted a door to door survey of the health status of the residents and came out with a report. The organisation, the village community and people's representatives sat together to find out sustainable solutions to the health problem. The industrialists showed a keen interest towards checking the deteriorating ecology. The overhead water tank's capacity in the village was enhanced and a 900m extra pipeline was laid to supply potable water to the community. The silted pond of the village was cleaned and recharged by distilling it. Large quantity of silt was removed paving way to large quantity of water so that it recharged the aquifers. Rainwater harvesting structures have been constructed at different places which has helped in diluting the contaminants of the groundwater after the monsoons. 1000 trees have also been planted which have improved the environment.

At the time of survey, which of the following was the population of Daurala ?

- (1) Ten thousand
- (2) Twelve thousand
- (3) Fourteen thousand
- (4) Fifteen thousand

Options :

485584158249. 1

485584158250. 2

485584158251. 3

485584158252. 4

Question Number : 633 Question Id : 48558439563 Question Type : MCQ Option Shuffling : No Is Question Mandatory : No Calculator : None Response Time : N.A Think Time : N.A Minimum Instruction Time : 0

Correct Marks : 5 Wrong Marks : 1

Question Key Details :

Key	Value
Comprehension	Comp2

दिए गए गद्यांशों को ध्यानपूर्वक पढ़िए और निम्न प्रश्नों के उत्तर दीजिए ।

'प्रदूषक भोगता है' के वैश्विक नियम के आधार पर मेरठ के निकट दौराला में लोगों की प्रतिभागिता के सहारे पारिस्थितिकी के पुनर्भरण और मानव स्वास्थ्य की सुरक्षा के लिए प्रयास किया गया है। मेरठ के एक गैर सरकारी संगठन (एन.जी.ओ.) द्वारा पारिस्थितिकी पुनर्भरण के एक मॉडल की रचना के तीन वर्ष बाद परिणाम आने आरंभ हो गए। दौराला स्थित उद्योगों के पदाधिकारियों, गैर-सरकारी संगठनों, सरकारी अधिकारियों और अन्य पदाधिकारियों की मेरठ में हुई मीटिंग में परिणाम सामने आए। यह सन् 2003 की बात है जब दौरालावासियों की दयनीय दशा ने एक जनहित सभा (सिविल सोसायटी) का ध्यान आकृष्ट किया। 12,000 लोगों की जनसंख्या वाले इस गाँव का भू-जल भारी धातुओं के संपर्क से संदूषित हो चुका था। इस कारण यह था कि दौराला के उद्योगों के अनुपचारित अपशिष्ट जल का भू-जल स्तर में निक्षालन हो रहा था। एन.जी.ओ. के कार्यकर्ताओं ने घर-घर जाकर लोगों के स्वास्थ्य-स्तर संबंधी सर्वेक्षण किया और एक रिपोर्ट बनाई। उस संगठन, ग्रामीण समुदाय और जन-प्रतिनिधियों के आपस में बैठकर इन समस्याओं के टिकाऊ समाधान ढूँढ़ने का प्रयास किया। उद्योगपतियों ने पारिस्थितिकी की गिरती दशा को नियंत्रित करने में गहरी रुचि दिखाई। गाँव की उपरली टंकी (over hand tank) की क्षमता बढ़ाई गई और समुदाय को पीने योग्य जल उपलब्ध कराने के लिए 900 मीटर की अतिरिक्त पाइपलाइन बिछाई गई। गाँव के गाद-युक्त तालाब को साफ किया गया और इसे गाद-विमुक्त करके पुनः जल से भरा गया जगह-जगह वर्षा-जल संग्रहण की संरचनाएँ बनाई गईं। जिनसे मानसून के पश्चात् भू-जल के संदूषक में कमी आई। एक हजार वृक्षों की लगाए गए जिनसे पर्यावरण का संवर्धन हुआ।

सर्वेक्षण के समय दौराला की जनसंख्या निम्न में से कितनी थी ?

- (1) दस हजार
- (2) बारह हजार
- (3) चौदह हजार
- (4) पंद्रह हजार

Options :

485584158249. 1

485584158250. 2

485584158251. 3

485584158252. 4

Question Number : 634 Question Id : 48558439564 Question Type : MCQ Option Shuffling : No Is Question Mandatory : No Calculator : None Response Time : N.A Think Time : N.A Minimum Instruction Time : 0

Correct Marks : 5 Wrong Marks : 1

Question Key Details :

Key	Value
Comprehension	Comp2

Read the given passage carefully and answer the following question :

Based on the universal law "Polluter pays", effect to restore the ecology and safeguard the human health with people's participation has taken place in Daurala near Meerut. These efforts are now bearing fruits after a span of three years when Meerut based NGO had developed a model for ecological restoration. The meeting of the Daurala Industries officials, NGOs, Government officials and other stakeholders at Meerut has brought out results. The powerful logics, authentic studies and the pressure of people have brought a new lease of life to the twelve thousand residents of this village. It was in the year 2003 that the pitiable condition of Dauralaities drew the attention of the civil society. The groundwater of this village was contaminated with heavy metals. The reason was that the untreated waste water of Daurala industries was leaching to the groundwater table. The NGO conducted a door to door survey of the health status of the residents and came out with a report. The organisation, the village community and people's representatives sat together to find out sustainable solutions to the health problem. The industrialists showed a keen interest towards checking the deteriorating ecology. The overhead water tank's capacity in the village was enhanced and a 900m extra pipeline was laid to supply potable water to the community. The silted pond of the village was cleaned and recharged by distilling it. Large quantity of silt was removed paving way to large quantity of water so that it recharged the aquifers. Rainwater harvesting structures have been constructed at different places which has helped in diluting the contaminants of the groundwater after the monsoons. 1000 trees have also been planted which have improved the environment.

During which of the following years, pitiable condition of villagers drew the attention of civil society ?

- (1) 2001
- (2) 2002
- (3) 2003
- (4) 2004

Options :

- 485584158253. 1
- 485584158254. 2
- 485584158255. 3
- 485584158256. 4

Question Number : 634 Question Id : 48558439564 Question Type : MCQ Option Shuffling : No Is Question Mandatory : No Calculator : None Response Time : N.A Think Time : N.A Minimum Instruction Time : 0

Correct Marks : 5 Wrong Marks : 1

Question Key Details :

Key	Value
Comprehension	Comp2

दिए गए गद्यांशों को ध्यानपूर्वक पढ़िए और निम्न प्रश्नों के उत्तर दीजिए ।

'प्रदूषक भोगता है' के वैश्विक नियम के आधार पर मेरठ के निकट दौराला में लोगों की प्रतिभागिता के सहारे पारिस्थितिकी के पुनर्भरण और मानव स्वास्थ्य की सुरक्षा के लिए प्रयास किया गया है। मेरठ के एक गैर सरकारी संगठन (एन.जी.ओ.) द्वारा पारिस्थितिकी पुनर्भरण के एक मॉडल की रचना के तीन वर्ष बाद परिणाम आने आरंभ हो गए। दौराला स्थित उद्योगों के पदाधिकारियों, गैर-सरकारी संगठनों, सरकारी अधिकारियों और अन्य पदाधिकारियों की मेरठ में हुई मीटिंग में परिणाम सामने आए। यह सन् 2003 की बात है जब दौरालावासियों की दयनीय दशा ने एक जनहित सभा (सिविल सोसायटी) का ध्यान आकृष्ट किया। 12,000 लोगों की जनसंख्या वाले इस गाँव का भू-जल भारी धातुओं के संपर्क से संदूषित हो चुका था। इस कारण यह था कि दौराला के उद्योगों के अनुपचारित अपशिष्ट जल का भू-जल स्तर में निक्षालन हो रहा था। एन.जी.ओ. के कार्यकर्ताओं ने घर-घर जाकर लोगों के स्वास्थ्य-स्तर संबंधी सर्वेक्षण किया और एक रिपोर्ट बनाई। उस संगठन, ग्रामीण समुदाय और जन-प्रतिनिधियों के आपस में बैठकर इन समस्याओं के टिकाऊ समाधान ढूँढ़ने का प्रयास किया। उद्योगपतियों ने पारिस्थितिकी की गिरती दशा को नियंत्रित करने में गहरी रुचि दिखाई। गाँव की उपरली टंकी (over hand tank) की क्षमता बढ़ाई गई और समुदाय को पीने योग्य जल उपलब्ध कराने के लिए 900 मीटर की अतिरिक्त पाइपलाइन बिछाई गई। गाँव के गाद-युक्त तालाब को साफ किया गया और इसे गाद-विमुक्त करके पुनः जल से भरा गया जगह-जगह वर्षा-जल संग्रहण की संरचनाएं बनाई गईं। जिनसे मानसून के पश्चात् भू-जल के संदूषक में कमी आई। एक हजार वृक्षों की लगाए गए जिनसे पर्यावरण का संवर्धन हुआ।

निम्न वर्षों में से किसके दौरान गाँव वालों की दयनीय दशा ने जनहित सभा (सिविल सोसायटी) का ध्यान आकृष्ट किया ?

- (1) 2001
- (2) 2002
- (3) 2003
- (4) 2004

Options :

485584158253. 1
485584158254. 2
485584158255. 3
485584158256. 4

Question Number : 635 Question Id : 48558439565 Question Type : MCQ Option Shuffling : No Is Question Mandatory : No Calculator : None
Response Time : N.A Think Time : N.A Minimum Instruction Time : 0

Correct Marks : 5 Wrong Marks : 1

Question Key Details :

Key	Value
Comprehension	Comp2

Read the given passage carefully and answer the following question :

Based on the universal law "Polluter pays", effect to restore the ecology and safeguard the human health with people's participation has taken place in Daurala near Meerut. These efforts are now bearing fruits after a span of three years when Meerut based NGO had developed a model for ecological restoration. The meeting of the Daurala Industries officials, NGOs, Government officials and other stakeholders at Meerut has brought out results. The powerful logics, authentic studies and the pressure of people have brought a new lease of life to the twelve thousand residents of this village. It was in the year 2003 that the pitiable condition of Dauralaities drew the attention of the civil society. The groundwater of this village was contaminated with heavy metals. The reason was that the untreated waste water of Daurala industries was leaching to the groundwater table. The NGO conducted a door to door survey of the health status of the residents and came out with a report. The organisation, the village community and people's representatives sat together to find out sustainable solutions to the health problem. The industrialists showed a keen interest towards checking the deteriorating ecology. The overhead water tank's capacity in the village was enhanced and a 900m extra pipeline was laid to supply potable water to the community. The silted pond of the village was cleaned and recharged by distilling it. Large quantity of silt was removed paving way to large quantity of water so that it recharged the aquifers. Rainwater harvesting structures have been constructed at different places which has helped in diluting the contaminants of the groundwater after the monsoons. 1000 trees have also been planted which have improved the environment.

Which of the following length of extra pipeline was laid to supply potable water to the community ?

- (1) 800 meter
- (2) 900 meter
- (3) 1000 meter
- (4) 1100 meter

Options :

485584158257. 1

485584158258. 2

485584158259. 3

485584158260. 4

Question Number : 635 Question Id : 48558439565 Question Type : MCQ Option Shuffling : No Is Question Mandatory : No Calculator : None Response Time : N.A Think Time : N.A Minimum Instruction Time : 0

Correct Marks : 5 Wrong Marks : 1

Question Key Details :

Key	Value
Comprehension	Comp2

दिए गए गद्यांशों को ध्यानपूर्वक पढ़िए और निम्न प्रश्नों के उत्तर दीजिए ।

'प्रदूषक भोगता है' के वैश्विक नियम के आधार पर मेरठ के निकट दौराला में लोगों की प्रतिभागिता के सहारे पारिस्थितिकी के पुनर्भरण और मानव स्वास्थ्य की सुरक्षा के लिए प्रयास किया गया है। मेरठ के एक गैर सरकारी संगठन (एन.जी.ओ.) द्वारा पारिस्थितिकी पुनर्भरण के एक मॉडल की रचना के तीन वर्ष बाद परिणाम आने आरंभ हो गए। दौराला स्थित उद्योगों के पदाधिकारियों, गैर-सरकारी संगठनों, सरकारी अधिकारियों और अन्य पदाधिकारियों की मेरठ में हुई मीटिंग में परिणाम सामने आए। यह सन् 2003 की बात है जब दौरालावासियों की दयनीय दशा ने एक जनहित सभा (सिविल सोसायटी) का ध्यान आकृष्ट किया। 12,000 लोगों की जनसंख्या वाले इस गाँव का भू-जल भारी धातुओं के संपर्क से संदूषित हो चुका था। इस कारण यह था कि दौराला के उद्योगों के अनुपचारित अपशिष्ट जल का भू-जल स्तर में निक्षालन हो रहा था। एन.जी.ओ. के कार्यकर्ताओं ने घर-घर जाकर लोगों के स्वास्थ्य-स्तर संबंधी सर्वेक्षण किया और एक रिपोर्ट बनाई। उस संगठन, ग्रामीण समुदाय और जन-प्रतिनिधियों के आपस में बैठकर इन समस्याओं के टिकाऊ समाधान ढूँढ़ने का प्रयास किया। उद्योगपतियों ने पारिस्थितिकी की गिरती दशा को नियंत्रित करने में गहरी रुचि दिखाई। गाँव की उपरली टंकी (over hand tank) की क्षमता बढ़ाई गई और समुदाय को पीने योग्य जल उपलब्ध कराने के लिए 900 मीटर की अतिरिक्त पाइपलाइन बिछाई गई। गाँव के गाद-युक्त तालाब को साफ किया गया और इसे गाद-विमुक्त करके पुनः जल से भरा गया जगह-जगह वर्षा-जल संग्रहण की संरचनाएँ बनाई गईं। जिनसे मानसून के पश्चात् भू-जल के संदूषक में कमी आई। एक हजार वृक्षों की लगाए गए जिनसे पर्यावरण का संवर्धन हुआ।

निम्न में से कितनी लम्बाई की अतिरिक्त पाइपलाइन, समुदाय को पीने योग्य जल उपलब्ध कराने के लिए बिछाई गई?

- (1) 800 मीटर
- (2) 900 मीटर
- (3) 1000 मीटर
- (4) 1100 मीटर

Options :

485584158257. 1
485584158258. 2
485584158259. 3
485584158260. 4

History

Group Number :	14
Group Id :	485584895
Group Maximum Duration :	45
Group Minimum Duration :	45
Show Attended Group? :	No
Edit Attended Group? :	No
Break time :	0
Group Marks :	200
Is this Group for Examiner? :	No
Examiner permission :	Cant View
Show Progress Bar? :	No

History

Section Id :	4855841037
Section Number :	1
Section type :	Online
Mandatory or Optional :	Mandatory
Number of Questions :	50
Number of Questions to be attempted :	40

Section Marks : 200
Enable Mark as Answered Mark for Review and Clear Response : Yes
Maximum Instruction Time : 0
Sub-Section Number : 1
Sub-Section Id : 4855842937
Question Shuffling Allowed : Yes
Is Section Default? : null

Question Number : 636 Question Id : 48558439566 Question Type : MCQ Option Shuffling : No Is Question Mandatory : No Calculator : None
Response Time : N.A Think Time : N.A Minimum Instruction Time : 0

Correct Marks : 5 Wrong Marks : 1

Question Key Details :

Key	Value
Comprehension	MCQ

Which of the following statement is NOT true about the Great Bath ?

- (1) The Great Bath was a rectangular tank surrounded by a corridor on all four sides.
- (2) There were two flights of steps on the east and the west leading into the tank.
- (3) The tank was made water tight by settings bricks on edge and using a mortar of gypsum.
- (4) There were rooms on three sides, in one of which there was a large well.

Options :

485584158261. 1
485584158262. 2
485584158263. 3
485584158264. 4

Question Number : 636 Question Id : 48558439566 Question Type : MCQ Option Shuffling : No Is Question Mandatory : No Calculator : None
Response Time : N.A Think Time : N.A Minimum Instruction Time : 0

Correct Marks : 5 Wrong Marks : 1

Question Key Details :

Key	Value
Comprehension	MCQ

निम्नलिखित कथनों में से कौन सा विशाल स्नानागार के संबंध में सही नहीं है ?

- (1) विशाल स्नानागार आँगन में बना एक आयताकार जलाशय है जो चारों ओर से एक गलियारे से घिरा हुआ है।
- (2) जलाशय के तल तक जाने के लिए इसके पूर्व और पश्चिम भाग में दो सीढ़ियाँ बनी थी।
- (3) जलाशय के किनारों पर ईंटों को जमाकर तथा जिप्सम के गारे के प्रयोग से इसे जलबद्ध किया गया था।
- (4) इसके तीनों ओर कक्ष बने हुए थे, जिनमें से एक में एक बड़ा कुँआ था।

Options :

485584158261. 1
485584158262. 2
485584158263. 3
485584158264. 4

Question Number : 637 Question Id : 48558439567 Question Type : MCQ Option Shuffling : No Is Question Mandatory : No Calculator : None
Response Time : N.A Think Time : N.A Minimum Instruction Time : 0

Correct Marks : 5 Wrong Marks : 1

Question Key Details :

Key	Value
Comprehension	MCQ

Who has written the book titled 'Mohenjodaro and the Indus Civilisation' in 1931 ?

- (1) R.E.M. Wheeler
- (2) G.F. Dales
- (3) John Marshall
- (4) Alexandar Cunningham

Options :

485584158265. 1
485584158266. 2
485584158267. 3
485584158268. 4

Question Number : 637 Question Id : 48558439567 Question Type : MCQ Option Shuffling : No Is Question Mandatory : No Calculator : None
Response Time : N.A Think Time : N.A Minimum Instruction Time : 0

Correct Marks : 5 Wrong Marks : 1

Question Key Details :

Key	Value
Comprehension	MCQ

1931 में 'मोहनजोदड़ो एंड द इंडस सिविलाईजेशन' शीर्षक पुस्तक के लेखक कौन थे ?

- (1) आर. ई. एम. व्हीलर
(2) जी. एफ. डेल्स
(3) जॉन मार्शल
(4) एलेक्जेंडर कनिंघम

Options :

485584158265. 1
485584158266. 2
485584158267. 3
485584158268. 4

Question Number : 638 Question Id : 48558439568 Question Type : MCQ Option Shuffling : No Is Question Mandatory : No Calculator : None
Response Time : N.A Think Time : N.A Minimum Instruction Time : 0

Correct Marks : 5 Wrong Marks : 1

Question Key Details :

Key	Value
Comprehension	MCQ

Which Harappan site among the following was a specialised centre for making shell objects ?

- (1) Mohenjodaro
(2) Nageshwar
(3) Kalibangan
(4) Shortughai

Options :

485584158269. 1
485584158270. 2
485584158271. 3
485584158272. 4

Question Number : 638 Question Id : 48558439568 Question Type : MCQ Option Shuffling : No Is Question Mandatory : No Calculator : None
Response Time : N.A Think Time : N.A Minimum Instruction Time : 0

Correct Marks : 5 Wrong Marks : 1

Question Key Details :

Key	Value
Comprehension	MCQ

इनमें से कौन सा हड़प्पा स्थल प्रमुख रूप से शंख से बनी वस्तुओं का निर्माण स्थल था ?

- (1) मोहनजोदड़ो
(2) नागेश्वर
(3) कालीबंगन
(4) शोर्तुघई

Options :

485584158269. 1
485584158270. 2
485584158271. 3
485584158272. 4

Question Number : 639 Question Id : 48558439569 Question Type : MCQ Option Shuffling : No Is Question Mandatory : No Calculator : None
Response Time : N.A Think Time : N.A Minimum Instruction Time : 0

Correct Marks : 5 Wrong Marks : 1

Question Key Details :

Key	Value
Comprehension	MCQ

Identify the statements which are TRUE for Harappan Archaeology.

- (A) S.R. Rao begins excavations at Lothal.
- (B) B.K. Thapar begins excavations at Kalibangan.
- (C) G.F. Dales excavates at Harappa.
- (D) M.S. Vats begins excavations at Harappa.
- (E) B.B. Lal begins excavations at Dholavira.

Choose the correct answer from the options given below :

- (1) (A), (B), (C) only
- (2) (B), (C), (D) only
- (3) (A), (B), (D) only
- (4) (B), (C), (E) only

Options :

485584158273. 1
485584158274. 2
485584158275. 3
485584158276. 4

Question Number : 639 Question Id : 48558439569 Question Type : MCQ Option Shuffling : No Is Question Mandatory : No Calculator : None
Response Time : N.A Think Time : N.A Minimum Instruction Time : 0

Correct Marks : 5 Wrong Marks : 1

Question Key Details :

Key	Value
Comprehension	MCQ

हड़प्पा पुरातत्व के संबंध में निम्नलिखित में से कौन से कथन सही है ?

- (A) एस. आर. राव द्वारा लोथल में खुदाई का आरंभ।
- (B) बी. के. थापर द्वारा कालीबंगन में खुदाई का आरंभ।
- (C) जी. एफ. डेल्स द्वारा हड़प्पा में खुदाई का आरंभ।
- (D) एम. एस वत्स द्वारा हड़प्पा में खुदाई का आरंभ।
- (E) बी. बी. लाल द्वारा धौलावीरा में खुदाई का आरंभ।

नीचे दिए गए विकल्पों में से सही उत्तर का चयन करें :

- (1) केवल (A), (B), (C)
- (2) केवल (B), (C), (D)
- (3) केवल (A), (B), (D)
- (4) केवल (B), (C), (E)

Options :

485584158273. 1

485584158274. 2
485584158275. 3
485584158276. 4

Question Number : 640 Question Id : 48558439570 Question Type : MCQ Option Shuffling : No Is Question Mandatory : No Calculator : None
Response Time : N.A Think Time : N.A Minimum Instruction Time : 0

Correct Marks : 5 Wrong Marks : 1

Question Key Details :

Key	Value
Comprehension	MCQ

Match List - I with List - II :

List - I

- (A) Terracotta models of plough
(B) Ploughed field
(C) Traces of canals
(D) Water Reservoirs

List - II

- (I) Kalibangan
(II) Dholavira
(III) Cholistan
(IV) Shortughai

Choose the correct answer from the options given below :

- (1) (A)-(IV), (B)-(II), (C)-(I), (D)-(III)
(2) (A)-(III), (B)-(I), (C)-(IV), (D)-(II)
(3) (A)-(II), (B)-(I), (C)-(III), (D)-(IV)
(4) (A)-(IV), (B)-(III), (C)-(II), (D)-(I)

Options :

485584158277. 1
485584158278. 2
485584158279. 3
485584158280. 4

Question Number : 640 Question Id : 48558439570 Question Type : MCQ Option Shuffling : No Is Question Mandatory : No Calculator : None
Response Time : N.A Think Time : N.A Minimum Instruction Time : 0

Correct Marks : 5 Wrong Marks : 1

Question Key Details :

Key	Value
Comprehension	MCQ

सूची - I का सूची - II से मिलान करें :

सूची - I

- (A) मिट्टी का बना हल
(B) जुते हुए खेत
(C) नहरों के अवशेष
(D) जलाशय

सूची - II

- (I) कालीबंगन
(II) धौलावीरा
(III) चोलिस्तान
(IV) शोतुघई

नीचे दिए गए विकल्पों में से सही उत्तर का चयन करें :

- (1) (A)-(IV), (B)-(II), (C)-(I), (D)-(III)
(2) (A)-(III), (B)-(I), (C)-(IV), (D)-(II)
(3) (A)-(II), (B)-(I), (C)-(III), (D)-(IV)
(4) (A)-(IV), (B)-(III), (C)-(II), (D)-(I)

Options :

485584158277. 1
485584158278. 2
485584158279. 3

Question Number : 641 Question Id : 48558439571 Question Type : MCQ Option Shuffling : No Is Question Mandatory : No Calculator : None
Response Time : N.A Think Time : N.A Minimum Instruction Time : 0

Correct Marks : 5 Wrong Marks : 1

Question Key Details :

Key	Value
Comprehension	MCQ

The Asokan inscriptions in the north-west of the Indian subcontinent were in which languages ?

- (1) Pali, Prakrit
- (2) Prakrit, Sanskrit
- (3) Sanskrit, Pali
- (4) Aramaic, Greek

Options :

485584158281. 1
485584158282. 2
485584158283. 3
485584158284. 4

Question Number : 641 Question Id : 48558439571 Question Type : MCQ Option Shuffling : No Is Question Mandatory : No Calculator : None
Response Time : N.A Think Time : N.A Minimum Instruction Time : 0

Correct Marks : 5 Wrong Marks : 1

Question Key Details :

Key	Value
Comprehension	MCQ

उत्तरी-पश्चिम भारतीय उपमहाद्वीप में अशोक काल के अभिलेख किस भाषा में हैं ?

- (1) पाली, प्राकृत
- (2) प्राकृत, संस्कृत
- (3) संस्कृत, पालि
- (4) अरमाइक, यूनानी

Options :

485584158281. 1
485584158282. 2
485584158283. 3
485584158284. 4

Question Number : 642 Question Id : 48558439572 Question Type : MCQ Option Shuffling : No Is Question Mandatory : No Calculator : None
Response Time : N.A Think Time : N.A Minimum Instruction Time : 0

Correct Marks : 5 Wrong Marks : 1

Question Key Details :

Key	Value
Comprehension	MCQ

Who deciphered Asokan Brahmi script ?

- (1) Alexander Cunningham
- (2) Colin Mackenzie
- (3) James Prinsep
- (4) R.E.M. Wheeler

Options :

485584158285. 1
485584158286. 2
485584158287. 3
485584158288. 4

Question Number : 642 Question Id : 48558439572 Question Type : MCQ Option Shuffling : No Is Question Mandatory : No Calculator : None
Response Time : N.A Think Time : N.A Minimum Instruction Time : 0

Correct Marks : 5 Wrong Marks : 1

Question Key Details :

Key	Value
Comprehension	MCQ

अशोककालीन ब्राह्मी लिपि का अर्थ किसने निकाला ?

- (1) अलेक्जेंडर कनिंघम
- (2) कोलिन मैकेजी
- (3) जेम्स प्रिंसेप
- (4) आर. ई. एम. व्हीलर

Options :

485584158285. 1
485584158286. 2
485584158287. 3
485584158288. 4

Question Number : 643 Question Id : 48558439573 Question Type : MCQ Option Shuffling : No Is Question Mandatory : No Calculator : None
Response Time : N.A Think Time : N.A Minimum Instruction Time : 0

Correct Marks : 5 Wrong Marks : 1

Question Key Details :

Key	Value
Comprehension	MCQ

Identify the work on dramaturgy in Sanskrit.

- (1) Ashtadhyayi
- (2) Tipitika
- (3) Natyashastra
- (4) Dharmashastras

Options :

485584158289. 1
485584158290. 2
485584158291. 3
485584158292. 4

Question Number : 643 Question Id : 48558439573 Question Type : MCQ Option Shuffling : No Is Question Mandatory : No Calculator : None
Response Time : N.A Think Time : N.A Minimum Instruction Time : 0

Correct Marks : 5 Wrong Marks : 1

Question Key Details :

Key	Value
Comprehension	MCQ

संस्कृत में नाटक कला पर कार्य की पहचान कीजिए।

- (1) अष्टाध्यायी
- (2) त्रिपिटक
- (3) नाट्यशास्त्र
- (4) धर्मशास्त्र

Options :

485584158289. 1
485584158290. 2
485584158291. 3
485584158292. 4

Question Number : 644 Question Id : 48558439574 Question Type : MCQ Option Shuffling : No Is Question Mandatory : No Calculator : None
Response Time : N.A Think Time : N.A Minimum Instruction Time : 0

Correct Marks : 5 Wrong Marks : 1

Question Key Details :

Key	Value
Comprehension	MCQ

What is the practice of marriage within a kin group, caste, or a group living in the same locality called ?

- (1) Polyandry
- (2) Endogamy
- (3) Polygyny
- (4) Exogamy

Options :

485584158293. 1
485584158294. 2
485584158295. 3
485584158296. 4

Question Number : 644 Question Id : 48558439574 Question Type : MCQ Option Shuffling : No Is Question Mandatory : No Calculator : None
Response Time : N.A Think Time : N.A Minimum Instruction Time : 0

Correct Marks : 5 Wrong Marks : 1

Question Key Details :

Key	Value
Comprehension	MCQ

एक समूह, एक गोत्र, कुल अथवा एक जाति या फिर एक ही स्थान पर बसने वालों के मध्य वैवाहिक संबंध की प्रथा क्या कहलाती है ?

- (1) बहुपति प्रथा
- (2) अंतर्विवाह प्रथा
- (3) बहुपत्नी प्रथा
- (4) बहिर्विवाह प्रथा

Options :

485584158293. 1
485584158294. 2
485584158295. 3
485584158296. 4

Question Number : 645 Question Id : 48558439575 Question Type : MCQ Option Shuffling : No Is Question Mandatory : No Calculator : None
Response Time : N.A Think Time : N.A Minimum Instruction Time : 0

Correct Marks : 5 Wrong Marks : 1

Question Key Details :

Key	Value
Comprehension	MCQ

'Dipavamsa' and 'Mahavamsa' related to Buddhism were composed in which foreign country ?

- (1) Tibet
- (2) Iran
- (3) Sri Lanka
- (4) China

Options :

485584158297. 1
485584158298. 2
485584158299. 3
485584158300. 4

Question Number : 645 Question Id : 48558439575 Question Type : MCQ Option Shuffling : No Is Question Mandatory : No Calculator : None
Response Time : N.A Think Time : N.A Minimum Instruction Time : 0

Correct Marks : 5 Wrong Marks : 1

Question Key Details :

Key	Value
Comprehension	MCQ

बौद्धधर्म से संबंधित पुस्तक 'दीपवंश' और 'महावंश' किस देश में लिखि गई थी ?

- (1) तिब्बत
- (2) ईरान
- (3) श्रीलंका
- (4) चीन

Options :

485584158297. 1

485584158298. 2

485584158299. 3

485584158300. 4

Question Number : 646 Question Id : 48558439576 Question Type : MCQ Option Shuffling : No Is Question Mandatory : No Calculator : None
Response Time : N.A Think Time : N.A Minimum Instruction Time : 0

Correct Marks : 5 Wrong Marks : 1

Question Key Details :

Key	Value
Comprehension	MCQ

According to Jaina tradition, Mahavira was preceded by how many other teachers or 'tirthankaras' ?

- (1) Twenty - two
- (2) Twenty - three
- (3) Twenty - four
- (4) Twenty - five

Options :

485584158301. 1

485584158302. 2

485584158303. 3

485584158304. 4

Question Number : 646 Question Id : 48558439576 Question Type : MCQ Option Shuffling : No Is Question Mandatory : No Calculator : None
Response Time : N.A Think Time : N.A Minimum Instruction Time : 0

Correct Marks : 5 Wrong Marks : 1

Question Key Details :

Key	Value
Comprehension	MCQ

जैन परंपरा के अनुसार, महावीर से पहले कितने शिक्षक हो चुके थे, जिन्हें तीर्थंकर कहा जाता था ?

- (1) बाईस
- (2) तेइस
- (3) चौबीस
- (4) पच्चीस

Options :

485584158301. 1

485584158302. 2

485584158303. 3

Question Number : 647 Question Id : 48558439577 Question Type : MCQ Option Shuffling : No Is Question Mandatory : No Calculator : None
Response Time : N.A Think Time : N.A Minimum Instruction Time : 0

Correct Marks : 5 Wrong Marks : 1

Question Key Details :

Key	Value
Comprehension	MCQ

Arrange in a chronological order the incidents of Siddhartha's first journey into the world.

- (A) He saw a sick man.
- (B) He saw a homeless mendicant.
- (C) He saw an old man.
- (D) He saw a corpse.

Choose the correct answer from the options given below :

- (1) (A), (B), (C), (D)
- (2) (D), (C), (B), (A)
- (3) (C), (A), (D), (B)
- (4) (B), (D), (A), (C)

Options :

485584158305. 1

485584158306. 2

485584158307. 3

485584158308. 4

Question Number : 647 Question Id : 48558439577 Question Type : MCQ Option Shuffling : No Is Question Mandatory : No Calculator : None
Response Time : N.A Think Time : N.A Minimum Instruction Time : 0

Correct Marks : 5 Wrong Marks : 1

Question Key Details :

Key	Value
Comprehension	MCQ

बाहरी दुनिया की बुद्ध की पहली यात्रा से संबंधित निम्नलिखित घटनाओं को कालक्रमानुसार में व्यवस्थित करें।

- (A) उन्होंने एक बीमार पुरुष को देखा।
- (B) उन्होंने एक गृहत्याग किए सन्यासी को देखा।
- (C) उन्होंने एक वृद्ध व्यक्ति को देखा।
- (D) उन्होंने एक लाश को देखा।

नीचे दिए गए विकल्पों में से सही उत्तर का चयन करें :

- (1) (A), (B), (C), (D)
- (2) (D), (C), (B), (A)
- (3) (C), (A), (D), (B)
- (4) (B), (D), (A), (C)

Options :

485584158305. 1

485584158306. 2

485584158307. 3

485584158308. 4

Question Number : 648 Question Id : 48558439578 Question Type : MCQ Option Shuffling : No Is Question Mandatory : No Calculator : None
Response Time : N.A Think Time : N.A Minimum Instruction Time : 0

Correct Marks : 5 Wrong Marks : 1

Question Key Details :

Key	Value
Comprehension	MCQ

Which of the following statements are **TRUE** about Mahayana Buddhism ?

- (A) Mahayana Buddhists did not believe that Buddha was the one who could ensure salvation.
- (B) Mahayana Buddhists saw Buddha as the saviour.
- (C) Bodhisattas were perceived as deeply compassionate beings who accumulated merit through their efforts.
- (D) Bodhisattas used their accumulated merit to attain nibbana and thereby abandon the world.
- (E) Bodhisattas used their accumulated merit to help others.

Choose the **correct** answer from the options given below :

- (1) (A), (B), (C) Only
- (2) (B), (C), (E) Only
- (3) (C), (D), (E) Only
- (4) (B), (C), (D) Only

Options :

- 485584158309. 1
- 485584158310. 2
- 485584158311. 3
- 485584158312. 4

Question Number : 648 Question Id : 48558439578 Question Type : MCQ Option Shuffling : No Is Question Mandatory : No Calculator : None
Response Time : N.A Think Time : N.A Minimum Instruction Time : 0

Correct Marks : 5 Wrong Marks : 1

Question Key Details :

Key	Value
Comprehension	MCQ

महायान बौद्ध धर्म से संबंधित निम्नलिखित कथनों में से कौन से **सही** हैं ?

- (A) महायान बौद्ध मत में बुद्ध मुक्ति नहीं दिला सकते हैं।
- (B) महायान बौद्ध वादियों ने बुद्ध को मुक्तिदाता के रूप में देखा।
- (C) बोधिसत्तों को परम करुणामय जीव माना गया जो अपने सत्कार्यों से पुण्य कमाते थे।
- (D) बोधिसत्त इस पुण्य का प्रयोग दुनिया को दुखों में छोड़ देने के लिए और निब्बान प्राप्ति के लिए करते थे।
- (E) बोधिसत्त अपने पुण्यों का प्रयोग दूसरों की सहायता के लिए करते थे।

नीचे दिए गए विकल्पों में से **सही** उत्तर का चयन करें :

- (1) (A), (B), (C) केवल
- (2) (B), (C), (E) केवल
- (3) (C), (D), (E) केवल
- (4) (B), (C), (D) केवल

Options :

- 485584158309. 1
- 485584158310. 2
- 485584158311. 3
- 485584158312. 4

Question Number : 649 Question Id : 48558439579 Question Type : MCQ Option Shuffling : No Is Question Mandatory : No Calculator : None
Response Time : N.A Think Time : N.A Minimum Instruction Time : 0

Correct Marks : 5 Wrong Marks : 1

Question Key Details :

Key	Value
Comprehension	MCQ

Match List - I with List - II :

List - I

- (A) Bodhgaya
- (B) Kusinagara
- (C) Lumbini
- (D) Sarnath

List - II

- (I) Place where Buddha attained 'nibbana'.
- (II) Place where Buddha gave his first sermon.
- (III) Place where Buddha attained enlightenment.
- (IV) Place where Buddha was born.

Choose the **correct** answer from the options given below :

- (1) (A)-(I), (B)-(II), (C)-(IV), (D)-(III)
- (2) (A)-(IV), (B)-(III), (C)-(II), (D)-(I)
- (3) (A)-(III), (B)-(I), (C)-(IV), (D)-(II)
- (4) (A)-(III), (B)-(I), (C)-(II), (D)-(IV)

Options :

- 485584158313. 1
- 485584158314. 2
- 485584158315. 3
- 485584158316. 4

Question Number : 649 Question Id : 48558439579 Question Type : MCQ Option Shuffling : No Is Question Mandatory : No Calculator : None Response Time : N.A Think Time : N.A Minimum Instruction Time : 0

Correct Marks : 5 Wrong Marks : 1

Question Key Details :

Key	Value
Comprehension	MCQ

सूची - I का सूची - II से मिलान करें :

सूची - I

- (A) बोधगया
- (B) कुशीनगर
- (C) लुम्बिनी
- (D) सारनाथ

सूची - II

- (I) वह स्थान जहाँ बुद्ध को निब्बान प्राप्त हुआ।
- (II) वह स्थान जहाँ बुद्ध ने अपना पहला उपदेश दिया।
- (III) वह स्थान जहाँ बुद्ध को ज्ञान की प्राप्ति हुई।
- (IV) वह स्थान जहाँ बुद्ध का जन्म हुआ।

नीचे दिए गए विकल्पों में से **सही** उत्तर का चयन करें :

- (1) (A)-(I), (B)-(II), (C)-(IV), (D)-(III)
- (2) (A)-(IV), (B)-(III), (C)-(II), (D)-(I)
- (3) (A)-(III), (B)-(I), (C)-(IV), (D)-(II)
- (4) (A)-(III), (B)-(I), (C)-(II), (D)-(IV)

Options :

- 485584158313. 1
- 485584158314. 2
- 485584158315. 3
- 485584158316. 4

Question Number : 650 Question Id : 48558439580 Question Type : MCQ Option Shuffling : No Is Question Mandatory : No Calculator : None Response Time : N.A Think Time : N.A Minimum Instruction Time : 0

Correct Marks : 5 Wrong Marks : 1

Question Key Details :

Key	Value
Comprehension	MCQ

What was the term 'Tankas' used for in medieval society ?

- (1) Workshops
- (2) Palanquins
- (3) Coins
- (4) Carpets

Options :

485584158317. 1
485584158318. 2
485584158319. 3
485584158320. 4

Question Number : 650 Question Id : 48558439580 Question Type : MCQ Option Shuffling : No Is Question Mandatory : No Calculator : None
Response Time : N.A Think Time : N.A Minimum Instruction Time : 0

Correct Marks : 5 Wrong Marks : 1

Question Key Details :

Key	Value
Comprehension	MCQ

मध्यकालीन समाज में 'टंका' शब्द का प्रयोग किसके लिए किया जाता था ?

- (1) कार्यस्थल
- (2) पालकी
- (3) सिक्के
- (4) कालीन

Options :

485584158317. 1
485584158318. 2
485584158319. 3
485584158320. 4

Question Number : 651 Question Id : 48558439581 Question Type : MCQ Option Shuffling : No Is Question Mandatory : No Calculator : None
Response Time : N.A Think Time : N.A Minimum Instruction Time : 0

Correct Marks : 5 Wrong Marks : 1

Question Key Details :

Key	Value
Comprehension	MCQ

Arrange the following foreign traveller's visit to India chronologically.

- (A) Francois Bernier from France.
- (B) Antonio Monserrate from Spain.
- (C) Jean-Baptiste Tavernier from France.
- (D) Duarte Barbosa From Portugal.
- (E) Peter Mundy from England.

Choose the correct answer from the options given below :

- (1) (C), (B), (D), (A), (E)
- (2) (E), (D), (C), (B), (A)
- (3) (A), (B), (C), (D), (E)
- (4) (D), (B), (E), (C), (A)

Options :

485584158321. 1
485584158322. 2

485584158323. 3
485584158324. 4

Question Number : 651 Question Id : 48558439581 Question Type : MCQ Option Shuffling : No Is Question Mandatory : No Calculator : None
Response Time : N.A Think Time : N.A Minimum Instruction Time : 0

Correct Marks : 5 Wrong Marks : 1

Question Key Details :

Key	Value
Comprehension	MCQ

निम्नलिखित विदेशी यात्रियों को उनके भारत आने के क्रमानुसार व्यवस्थित करें।

- (A) फ्रांस से फ्रांस्वा बर्नियर
- (B) स्पेन से अंतोनियो मानसेरेते
- (C) फ्रांस से ज्यॉ बैप्टिस्ट तैवर्नियर
- (D) पुर्तगाल से दूरते बरबोसा
- (E) इंग्लैंड से पीटर मुंडी

नीचे दिए गए विकल्पों में से सही उत्तर का चयन करें :

- (1) (C), (B), (D), (A), (E)
- (2) (E), (D), (C), (B), (A)
- (3) (A), (B), (C), (D), (E)
- (4) (D), (B), (E), (C), (A)

Options :

485584158321. 1
485584158322. 2
485584158323. 3
485584158324. 4

Question Number : 652 Question Id : 48558439582 Question Type : MCQ Option Shuffling : No Is Question Mandatory : No Calculator : None
Response Time : N.A Think Time : N.A Minimum Instruction Time : 0

Correct Marks : 5 Wrong Marks : 1

Question Key Details :

Key	Value
Comprehension	MCQ

The title 'Hindu Suratrana' is sanskritisation of which of the following Arabic term ?

- (1) Shaikh
- (2) Sultan
- (3) Nawaz
- (4) Ulama

Options :

485584158325. 1
485584158326. 2
485584158327. 3
485584158328. 4

Question Number : 652 Question Id : 48558439582 Question Type : MCQ Option Shuffling : No Is Question Mandatory : No Calculator : None
Response Time : N.A Think Time : N.A Minimum Instruction Time : 0

Correct Marks : 5 Wrong Marks : 1

Question Key Details :

Key	Value
Comprehension	MCQ

अरबी भाषा का शब्द, 'हिन्दू सुरतराणा' निम्न में से किस शब्द का संस्कृत अनुवाद था ?

- (1) शेख
- (2) सुल्तान
- (3) नवाज
- (4) उलेमा

Options :

485584158325. 1
485584158326. 2
485584158327. 3
485584158328. 4

Question Number : 653 Question Id : 48558439583 Question Type : MCQ Option Shuffling : No Is Question Mandatory : No Calculator : None Response Time : N.A Think Time : N.A Minimum Instruction Time : 0

Correct Marks : 5 Wrong Marks : 1

Question Key Details :

Key	Value
Comprehension	MCQ

Who was the guardian deity of the Vijayanagara Kingdom ?

- (1) Gajapati
- (2) Kudirai chettis
- (3) Virupaksha
- (4) Mahanavami dibba

Options :

485584158329. 1
485584158330. 2
485584158331. 3
485584158332. 4

Question Number : 653 Question Id : 48558439583 Question Type : MCQ Option Shuffling : No Is Question Mandatory : No Calculator : None Response Time : N.A Think Time : N.A Minimum Instruction Time : 0

Correct Marks : 5 Wrong Marks : 1

Question Key Details :

Key	Value
Comprehension	MCQ

विजयनगर साम्राज्य का संरक्षक देवता कौन था ?

- (1) गजपति
- (2) कुदिरई चेट्टीज
- (3) विरूपाक्ष
- (4) महानवमी डिब्बा

Options :

485584158329. 1
485584158330. 2
485584158331. 3
485584158332. 4

Question Number : 654 Question Id : 48558439584 Question Type : MCQ Option Shuffling : No Is Question Mandatory : No Calculator : None Response Time : N.A Think Time : N.A Minimum Instruction Time : 0

Correct Marks : 5 Wrong Marks : 1

Question Key Details :

Key	Value
Comprehension	MCQ

When was 'Hampi' declared a World Heritage Site by UNESCO ?

- (1) 1876
- (2) 1986
- (3) 1990
- (4) 1902

Options :

- 485584158333. 1
- 485584158334. 2
- 485584158335. 3
- 485584158336. 4

Question Number : 654 Question Id : 48558439584 Question Type : MCQ Option Shuffling : No Is Question Mandatory : No Calculator : None Response Time : N.A Think Time : N.A Minimum Instruction Time : 0

Correct Marks : 5 Wrong Marks : 1

Question Key Details :

Key	Value
Comprehension	MCQ

'हम्पी' यूनेस्को द्वारा विश्व पुरातत्व स्थल कब घोषित किया गया ?

- (1) 1876
- (2) 1986
- (3) 1990
- (4) 1902

Options :

- 485584158333. 1
- 485584158334. 2
- 485584158335. 3
- 485584158336. 4

Question Number : 655 Question Id : 48558439585 Question Type : MCQ Option Shuffling : No Is Question Mandatory : No Calculator : None Response Time : N.A Think Time : N.A Minimum Instruction Time : 0

Correct Marks : 5 Wrong Marks : 1

Question Key Details :

Key	Value
Comprehension	MCQ

Match List - I with List - II :

List - I

- (A) Abdur Razzak
- (B) Domingo Paes
- (C) Afanasii Nikitin
- (D) Nicolo de Conti

List - II

- (I) Portugal
- (II) Russia
- (III) Persia
- (IV) Italy

Choose the correct answer from the options given below :

- (1) (A)-(I), (B)-(II), (C)-(IV), (D)-(III)
- (2) (A)-(II), (B)-(I), (C)-(III), (D)-(IV)
- (3) (A)-(III), (B)-(I), (C)-(II), (D)-(IV)
- (4) (A)-(I), (B)-(III), (C)-(II), (D)-(IV)

Options :

- 485584158337. 1
- 485584158338. 2
- 485584158339. 3
- 485584158340. 4

Question Number : 655 Question Id : 48558439585 Question Type : MCQ Option Shuffling : No Is Question Mandatory : No Calculator : None
Response Time : N.A Think Time : N.A Minimum Instruction Time : 0

Correct Marks : 5 Wrong Marks : 1

Question Key Details :

Key	Value
Comprehension	MCQ

सूची - I का सूची - II से मिलान करें :

सूची - I

सूची - II

- | | |
|----------------------|--------------|
| (A) अब्दुर रज्जाक | (I) पुर्तगाल |
| (B) डोमिंग पेस | (II) रूस |
| (C) अफानासी निकितिन | (III) फ़ारस |
| (D) निकोलो दे कॉन्ती | (IV) इटली |

नीचे दिए गए विकल्पों में से सही उत्तर का चयन करें :

- (1) (A)-(I), (B)-(II), (C)-(IV), (D)-(III)
- (2) (A)-(II), (B)-(I), (C)-(III), (D)-(IV)
- (3) (A)-(III), (B)-(I), (C)-(II), (D)-(IV)
- (4) (A)-(I), (B)-(III), (C)-(II), (D)-(IV)

Options :

485584158337. 1
485584158338. 2
485584158339. 3
485584158340. 4

Question Number : 656 Question Id : 48558439586 Question Type : MCQ Option Shuffling : No Is Question Mandatory : No Calculator : None
Response Time : N.A Think Time : N.A Minimum Instruction Time : 0

Correct Marks : 5 Wrong Marks : 1

Question Key Details :

Key	Value
Comprehension	MCQ

Who was the official responsible for ensuring that imperial regulations were carried out in the provinces during the Mughal period ?

- (1) Patwari
- (2) Amin
- (3) Zamindar
- (4) Mansabdar

Options :

485584158341. 1
485584158342. 2
485584158343. 3
485584158344. 4

Question Number : 656 Question Id : 48558439586 Question Type : MCQ Option Shuffling : No Is Question Mandatory : No Calculator : None
Response Time : N.A Think Time : N.A Minimum Instruction Time : 0

Correct Marks : 5 Wrong Marks : 1

Question Key Details :

Key	Value
Comprehension	MCQ

मुगलकाल में वह कौन सा मुलाजिम था जिसकी जिम्मेवारी यह सुनिश्चित करता थाकि प्रांतों में राजकीय नियम कानूनों का पालन हो रहा है ?

- (1) पटवारी
- (2) अमीन
- (3) जर्मीदार
- (4) मनसबदार

Options :

485584158341. 1
485584158342. 2
485584158343. 3
485584158344. 4

Question Number : 657 Question Id : 48558439587 Question Type : MCQ Option Shuffling : No Is Question Mandatory : No Calculator : None Response Time : N.A Think Time : N.A Minimum Instruction Time : 0

Correct Marks : 5 Wrong Marks : 1

Question Key Details :

Key	Value
Comprehension	MCQ

In Mughal India, the zamindars held extensive personal lands. The term used for these land was

- (1) Qilachas
- (2) Khidmat
- (3) Milkiyat
- (4) Diwan

Options :

485584158345. 1
485584158346. 2
485584158347. 3
485584158348. 4

Question Number : 657 Question Id : 48558439587 Question Type : MCQ Option Shuffling : No Is Question Mandatory : No Calculator : None Response Time : N.A Think Time : N.A Minimum Instruction Time : 0

Correct Marks : 5 Wrong Marks : 1

Question Key Details :

Key	Value
Comprehension	MCQ

मुगल भारत में, जर्मीदारों के पास विस्तारित व्यक्तिगत जमीन होती थी। इन जमीनों के लिए कौन सा शब्द प्रयुक्त होता था ?

- (1) किला
- (2) खिदमत
- (3) मिलिकयत
- (4) दीवान

Options :

485584158345. 1
485584158346. 2
485584158347. 3
485584158348. 4

Question Number : 658 Question Id : 48558439588 Question Type : MCQ Option Shuffling : No Is Question Mandatory : No Calculator : None Response Time : N.A Think Time : N.A Minimum Instruction Time : 0

Correct Marks : 5 Wrong Marks : 1

Question Key Details :

Key	Value
Comprehension	MCQ

Who was the author of 'Badshah Nama' ?

- (1) Abul Fazl
- (2) Abdul Hamid Lahori
- (3) Mir Sayyid Ali
- (4) Abdus Samad

Options :

485584158349. 1
 485584158350. 2
 485584158351. 3
 485584158352. 4

Question Number : 658 Question Id : 48558439588 Question Type : MCQ Option Shuffling : No Is Question Mandatory : No Calculator : None
 Response Time : N.A Think Time : N.A Minimum Instruction Time : 0

Correct Marks : 5 Wrong Marks : 1

Question Key Details :

Key	Value
Comprehension	MCQ

'बादशाह नामा' के लेखक कौन थे ?

- (1) अबुल फजल
- (2) अब्दुल हमीद लाहौरी
- (3) मीर सैय्यद अली
- (4) अब्दुस समद

Options :

485584158349. 1
 485584158350. 2
 485584158351. 3
 485584158352. 4

Question Number : 659 Question Id : 48558439589 Question Type : MCQ Option Shuffling : No Is Question Mandatory : No Calculator : None
 Response Time : N.A Think Time : N.A Minimum Instruction Time : 0

Correct Marks : 5 Wrong Marks : 1

Question Key Details :

Key	Value
Comprehension	MCQ

Arrange the following administrative division under the Mughal system in a hierarchy, from top to bottom.

- (A) Sarkar
- (B) Subas
- (C) Mughal Empire
- (D) Village
- (E) Pargana

Choose the correct answer from the options given below :

- (1) (C), (A), (B), (D), (E)
- (2) (D), (B), (C), (A), (E)
- (3) (D), (C), (E), (A), (B)
- (4) (C), (B), (A), (E), (D)

Options :

485584158353. 1
485584158354. 2
485584158355. 3
485584158356. 4

Question Number : 659 Question Id : 48558439589 Question Type : MCQ Option Shuffling : No Is Question Mandatory : No Calculator : None
Response Time : N.A Think Time : N.A Minimum Instruction Time : 0

Correct Marks : 5 Wrong Marks : 1

Question Key Details :

Key	Value
Comprehension	MCQ

मुगल व्यवस्था के निम्न प्रशासकीय प्रभागों को वरीयताक्रम में ऊपर से नीचे के क्रम में व्यवस्थित करें।

- (A) सरकार
- (B) सूबा
- (C) मुगल साम्राज्य
- (D) गाँव
- (E) परगना

नीचे दिए गए विकल्पों में से सही उत्तर का चयन करें :

- (1) (C), (A), (B), (D), (E)
- (2) (D), (B), (C), (A), (E)
- (3) (D), (C), (E), (A), (B)
- (4) (C), (B), (A), (E), (D)

Options :

485584158353. 1
485584158354. 2
485584158355. 3
485584158356. 4

Question Number : 660 Question Id : 48558439590 Question Type : MCQ Option Shuffling : No Is Question Mandatory : No Calculator : None
Response Time : N.A Think Time : N.A Minimum Instruction Time : 0

Correct Marks : 5 Wrong Marks : 1

Question Key Details :

Key	Value
Comprehension	MCQ

The history of Permanent Settlement in Bengal confirmed the theories of which British official ?

- (1) Thomas Macaulay
- (2) Lord Curzon
- (3) Lord Wellesley
- (4) David Ricardo

Options :

485584158357. 1
485584158358. 2
485584158359. 3
485584158360. 4

Question Number : 660 Question Id : 48558439590 Question Type : MCQ Option Shuffling : No Is Question Mandatory : No Calculator : None
Response Time : N.A Think Time : N.A Minimum Instruction Time : 0

Correct Marks : 5 Wrong Marks : 1

Question Key Details :

Key	Value
Comprehension	MCQ

बंगाल में इस्तमरारी बंदोबस्तो का इतिहास किस ब्रिटिश अधिकारी के सिद्धांतों को सुनिश्चित करता है ?

- (1) थॉमस मैकाले
- (2) लॉर्ड कर्जन
- (3) लॉर्ड वेलेज़्ली
- (4) डेविड रिक्कार्डों

Options :

485584158357. 1
485584158358. 2
485584158359. 3
485584158360. 4

Question Number : 661 Question Id : 48558439591 Question Type : MCQ Option Shuffling : No Is Question Mandatory : No Calculator : None Response Time : N.A Think Time : N.A Minimum Instruction Time : 0

Correct Marks : 5 Wrong Marks : 1

Question Key Details :

Key	Value
Comprehension	MCQ

Arrange the following in a chronological order.

- (A) Permanent Settlement of Bengal
- (B) The Fifth Report
- (C) Damin-i-Koh
- (D) Santhal Revolt
- (E) Deccan Riot Report

Choose the **correct** answer from the options given below :

- (1) (A), (B), (C), (D), (E)
- (2) (A), (C), (B), (E), (D)
- (3) (C), (D), (E), (A), (B)
- (4) (E), (A), (B), (D), (C)

Options :

485584158361. 1
485584158362. 2
485584158363. 3
485584158364. 4

Question Number : 661 Question Id : 48558439591 Question Type : MCQ Option Shuffling : No Is Question Mandatory : No Calculator : None Response Time : N.A Think Time : N.A Minimum Instruction Time : 0

Correct Marks : 5 Wrong Marks : 1

Question Key Details :

Key	Value
Comprehension	MCQ

निम्नलिखित को कालक्रमानुसार व्यवस्थित करे।

- (A) बंगाल में इस्तमरारी बंदोबस्त
- (B) पाँचवी रिपोर्ट
- (C) दामिन-ए-कोह
- (D) संथाल विद्रोह
- (E) दक्कन दंगा रिपोर्ट

नीचे दिए गए विकल्पों में से सही उत्तर का चयन करें :

- (1) (A), (B), (C), (D), (E)
- (2) (A), (C), (B), (E), (D)
- (3) (C), (D), (E), (A), (B)
- (4) (E), (A), (B), (D), (C)

Options :

- 485584158361. 1
- 485584158362. 2
- 485584158363. 3
- 485584158364. 4

Question Number : 662 Question Id : 48558439592 Question Type : MCQ Option Shuffling : No Is Question Mandatory : No Calculator : None Response Time : N.A Think Time : N.A Minimum Instruction Time : 0

Correct Marks : 5 Wrong Marks : 1

Question Key Details :

Key	Value
Comprehension	MCQ

When was the first all-India census attempted in British India ?

- (1) 1872
- (2) 1881
- (3) 1901
- (4) 1911

Options :

- 485584158365. 1
- 485584158366. 2
- 485584158367. 3
- 485584158368. 4

Question Number : 662 Question Id : 48558439592 Question Type : MCQ Option Shuffling : No Is Question Mandatory : No Calculator : None Response Time : N.A Think Time : N.A Minimum Instruction Time : 0

Correct Marks : 5 Wrong Marks : 1

Question Key Details :

Key	Value
Comprehension	MCQ

ब्रिटिश भारत में अखिल भारतीय जनगणना का पहला प्रयास कब किया गया था ?

- (1) 1872
- (2) 1881
- (3) 1901
- (4) 1911

Options :

- 485584158365. 1
- 485584158366. 2

485584158367. 3
485584158368. 4

Question Number : 663 Question Id : 48558439593 Question Type : MCQ Option Shuffling : No Is Question Mandatory : No Calculator : None
Response Time : N.A Think Time : N.A Minimum Instruction Time : 0

Correct Marks : 5 Wrong Marks : 1

Question Key Details :

Key	Value
Comprehension	MCQ

Match List - I with List - II :

List - I

- (A) Delhi and Lahore
- (B) Madurai and Kanchipuram
- (C) Lucknow and Hyderabad
- (D) Madras and Bombay

List - II

- (I) Temple Architecture
- (II) Regional Power Centre
- (III) Imperial Centre
- (IV) British Commercial Centre

Choose the correct answer from the options given below :

- (1) (A)-(I), (B)-(II), (C)-(III), (D)-(IV)
- (2) (A)-(IV), (B)-(III), (C)-(II), (D)-(I)
- (3) (A)-(III), (B)-(I), (C)-(II), (D)-(IV)
- (4) (A)-(II), (B)-(III), (C)-(IV), (D)-(I)

Options :

485584158369. 1
485584158370. 2
485584158371. 3
485584158372. 4

Question Number : 663 Question Id : 48558439593 Question Type : MCQ Option Shuffling : No Is Question Mandatory : No Calculator : None
Response Time : N.A Think Time : N.A Minimum Instruction Time : 0

Correct Marks : 5 Wrong Marks : 1

Question Key Details :

Key	Value
Comprehension	MCQ

सूची - I का सूची - II से मिलान करें :

सूची - I

- (A) दिल्ली और लाहौर
- (B) मुदरई और काँचोपुरम्
- (C) लखनऊ और हैदराबाद
- (D) मद्रास और बम्बई

सूची - II

- (I) मंदिर वास्तुकला
- (II) प्रांतीय शक्ति केंद्र
- (III) साम्राज्य संबंधी केंद्र
- (IV) ब्रिटिश व्यापारिक क्षेत्र

नीचे दिए गए विकल्पों में से सही उत्तर का चयन करें :

- (1) (A)-(I), (B)-(II), (C)-(III), (D)-(IV)
- (2) (A)-(IV), (B)-(III), (C)-(II), (D)-(I)
- (3) (A)-(III), (B)-(I), (C)-(II), (D)-(IV)
- (4) (A)-(II), (B)-(III), (C)-(IV), (D)-(I)

Options :

485584158369. 1
485584158370. 2
485584158371. 3
485584158372. 4

Question Number : 664 Question Id : 48558439594 Question Type : MCQ Option Shuffling : No Is Question Mandatory : No Calculator : None
Response Time : N.A Think Time : N.A Minimum Instruction Time : 0

Correct Marks : 5 Wrong Marks : 1

Question Key Details :

Key	Value
Comprehension	MCQ

Who was the Viceroy of India during the time of 'Salt March' ?

- (1) Lord Chelmsford
- (2) Lord Hardinge
- (3) Lord Irwin
- (4) Lord Curzon

Options :

- 485584158373. 1
- 485584158374. 2
- 485584158375. 3
- 485584158376. 4

Question Number : 664 Question Id : 48558439594 Question Type : MCQ Option Shuffling : No Is Question Mandatory : No Calculator : None
Response Time : N.A Think Time : N.A Minimum Instruction Time : 0

Correct Marks : 5 Wrong Marks : 1

Question Key Details :

Key	Value
Comprehension	MCQ

'नमक यात्रा' के समय भारत का वायसराय कौन था ?

- (1) लॉर्ड चेम्सफोर्ड
- (2) लॉर्ड हार्डिंग
- (3) लॉर्ड इरविन
- (4) लॉर्ड कर्ज़न

Options :

- 485584158373. 1
- 485584158374. 2
- 485584158375. 3
- 485584158376. 4

Question Number : 665 Question Id : 48558439595 Question Type : MCQ Option Shuffling : No Is Question Mandatory : No Calculator : None
Response Time : N.A Think Time : N.A Minimum Instruction Time : 0

Correct Marks : 5 Wrong Marks : 1

Question Key Details :

Key	Value
Comprehension	MCQ

When did Gandhi begin his 'Salt March' also known as the 'Dandi March' ?

- (1) 26 January 1930
- (2) 12 March 1930
- (3) 5 April 1930
- (4) 6 April 1930

Options :

- 485584158377. 1
- 485584158378. 2
- 485584158379. 3
- 485584158380. 4

Question Number : 665 Question Id : 48558439595 Question Type : MCQ Option Shuffling : No Is Question Mandatory : No Calculator : None
Response Time : N.A Think Time : N.A Minimum Instruction Time : 0

Correct Marks : 5 Wrong Marks : 1

Question Key Details :

Key	Value
Comprehension	MCQ

गाँधी ने कब 'नमक यात्रा' जिसे 'दांडी मार्च' के नाम से भी जाना जाता है, को शुरूआत की ?

- (1) 26 जनवरी 1930
- (2) 12 मार्च 1930
- (3) 5 अप्रैल 1930
- (4) 6 अप्रैल 1930

Options :

- 485584158377. 1
- 485584158378. 2
- 485584158379. 3
- 485584158380. 4

Question Number : 666 Question Id : 48558439596 Question Type : MCQ Option Shuffling : No Is Question Mandatory : No Calculator : None
Response Time : N.A Think Time : N.A Minimum Instruction Time : 0

Correct Marks : 5 Wrong Marks : 1

Question Key Details :

Key	Value
Comprehension	MCQ

When did the Congress Ministries resign in protest when the British government refused to grant India independence after World War II ended ?

- (1) September 1939
- (2) October 1939
- (3) March 1940
- (4) August 1942

Options :

- 485584158381. 1
- 485584158382. 2
- 485584158383. 3
- 485584158384. 4

Question Number : 666 Question Id : 48558439596 Question Type : MCQ Option Shuffling : No Is Question Mandatory : No Calculator : None
Response Time : N.A Think Time : N.A Minimum Instruction Time : 0

Correct Marks : 5 Wrong Marks : 1

Question Key Details :

Key	Value
Comprehension	MCQ

कांग्रेस मंत्रिमण्डल ने कब अपना इस्तीफा दिया जब ब्रिटिश सरकार ने द्वितीय विश्वयुद्ध के बाद भारत की स्वतंत्रता की माँग अस्वीकार कर दिया ?

- (1) सितंबर 1939
- (2) अक्टूबर 1939
- (3) मार्च 1940
- (4) अगस्त 1942

Options :

- 485584158381. 1
- 485584158382. 2
- 485584158383. 3

485584158384. 4

Question Number : 667 Question Id : 48558439597 Question Type : MCQ Option Shuffling : No Is Question Mandatory : No Calculator : None
Response Time : N.A Think Time : N.A Minimum Instruction Time : 0

Correct Marks : 5 Wrong Marks : 1

Question Key Details :

Key	Value
Comprehension	MCQ

When did the Civil Disobedience Movement begin ?

- (1) 1921
- (2) 1930
- (3) 1931
- (4) 1942

Options :

- 485584158385. 1
- 485584158386. 2
- 485584158387. 3
- 485584158388. 4

Question Number : 667 Question Id : 48558439597 Question Type : MCQ Option Shuffling : No Is Question Mandatory : No Calculator : None
Response Time : N.A Think Time : N.A Minimum Instruction Time : 0

Correct Marks : 5 Wrong Marks : 1

Question Key Details :

Key	Value
Comprehension	MCQ

'सविनय अवज्ञा आंदोलन' कब शुरू हुआ ?

- (1) 1921
- (2) 1930
- (3) 1931
- (4) 1942

Options :

- 485584158385. 1
- 485584158386. 2
- 485584158387. 3
- 485584158388. 4

Question Number : 668 Question Id : 48558439598 Question Type : MCQ Option Shuffling : No Is Question Mandatory : No Calculator : None
Response Time : N.A Think Time : N.A Minimum Instruction Time : 0

Correct Marks : 5 Wrong Marks : 1

Question Key Details :

Key	Value
Comprehension	MCQ

Identify the correct chronological statements :

- (A) Rowlatt Satyagraha, 1920
- (B) Gandhi-Irwin Pact, 1921
- (C) World War I/Great War, 1914-18
- (D) Champaran Movement, 1917
- (E) Quit India Movement, 1942

Choose the correct answer from the options given below :

- (1) (A), (B), (C) Only
- (2) (B), (C), (D) Only
- (3) (C), (D), (E) Only
- (4) (A), (B), (E) Only

Options :

- 485584158389. 1
- 485584158390. 2
- 485584158391. 3
- 485584158392. 4

Question Number : 668 Question Id : 48558439598 Question Type : MCQ Option Shuffling : No Is Question Mandatory : No Calculator : None Response Time : N.A Think Time : N.A Minimum Instruction Time : 0

Correct Marks : 5 Wrong Marks : 1

Question Key Details :

Key	Value
Comprehension	MCQ

कथनों को सही क्रमानुसार पहचान करें :

- (A) रॉलेट सत्याग्रह, 1920
- (B) गाँधी-इरविन समझौता, 1921
- (C) प्रथम विश्व युद्ध/विशाल युद्ध, 1914-18
- (D) चंपारन आंदोलन, 1917
- (E) भारत छोड़ो आंदोलन, 1942

नीचे दिए गए विकल्पों में से सही उत्तर का चयन करें :

- (1) (A), (B), (C) केवल
- (2) (B), (C), (D) केवल
- (3) (C), (D), (E) केवल
- (4) (A), (B), (E) केवल

Options :

- 485584158389. 1
- 485584158390. 2
- 485584158391. 3
- 485584158392. 4

Question Number : 669 Question Id : 48558439599 Question Type : MCQ Option Shuffling : No Is Question Mandatory : No Calculator : None Response Time : N.A Think Time : N.A Minimum Instruction Time : 0

Correct Marks : 5 Wrong Marks : 1

Question Key Details :

Key	Value
Comprehension	MCQ

When was the 'Direct Action Day' announced by the Muslim League ?

- (1) 14 August 1946
- (2) 16 August 1946
- (3) 18 August 1946
- (4) 20 August 1946

Options :

485584158393. 1
485584158394. 2
485584158395. 3
485584158396. 4

Question Number : 669 Question Id : 48558439599 Question Type : MCQ Option Shuffling : No Is Question Mandatory : No Calculator : None
Response Time : N.A Think Time : N.A Minimum Instruction Time : 0

Correct Marks : 5 Wrong Marks : 1

Question Key Details :

Key	Value
Comprehension	MCQ

मुस्लिम लीग द्वारा 'प्रत्यक्ष कार्रवाई दिवस' कब घोषित किया गया था ?

- (1) 14 अगस्त 1946
- (2) 16 अगस्त 1946
- (3) 18 अगस्त 1946
- (4) 20 अगस्त 1946

Options :

485584158393. 1
485584158394. 2
485584158395. 3
485584158396. 4

Question Number : 670 Question Id : 48558439600 Question Type : MCQ Option Shuffling : No Is Question Mandatory : No Calculator : None
Response Time : N.A Think Time : N.A Minimum Instruction Time : 0

Correct Marks : 5 Wrong Marks : 1

Question Key Details :

Key	Value
Comprehension	MCQ

Arrange the following in a chronological order.

- (A) The Muslim League decides on "Direct Action" to get Pakistan.
- (B) Congress Ministries come to power in seven provinces of British India.
- (C) Choudhary Rehmat Ali coins the name Pakistan.
- (D) The Muslim League demands autonomy for Muslim-majority provinces.
- (E) Mohammad Iqbal speaks of the need for an autonomous Muslim state.

Choose the **correct** answer from the options given below :

- (1) (B), (A), (C), (E), (D)
- (2) (A), (B), (C), (D), (E)
- (3) (E), (D), (C), (B), (A)
- (4) (E), (C), (B), (D), (A)

Options :

485584158397. 1
485584158398. 2
485584158399. 3
485584158400. 4

Question Number : 670 Question Id : 48558439600 Question Type : MCQ Option Shuffling : No Is Question Mandatory : No Calculator : None
Response Time : N.A Think Time : N.A Minimum Instruction Time : 0

Correct Marks : 5 Wrong Marks : 1

Question Key Details :

Key	Value
Comprehension	MCQ

निम्नलिखित को कालक्रमानुसार व्यवस्थित करें।

- (A) मुस्लिम लीग द्वारा पाकिस्तान की स्थापना के लिए "प्रत्यक्ष कार्रवाई" के पक्ष में फैसला।
- (B) ब्रिटिश भारत के सात प्रांतों में कांग्रेस मंत्रिमंडल का सत्ता में आना।
- (C) चौधरी रहमत अली द्वारा पाकिस्तान नाम गढ़ना।
- (D) मुस्लिम लीग द्वारा मुस्लिम बहुल प्रांतों में स्वायत्ता की माँग।
- (E) मुहम्मद इकबाल ने मुस्लिम राज्य की स्वायत्ता की बात कही।

नीचे दिए गए विकल्पों में से सही उत्तर का चयन करें :

- (1) (B), (A), (C), (E), (D)
- (2) (A), (B), (C), (D), (E)
- (3) (E), (D), (C), (B), (A)
- (4) (E), (C), (B), (D), (A)

Options :

485584158397. 1

485584158398. 2

485584158399. 3

485584158400. 4

Question Number : 671 Question Id : 48558439601 Question Type : MCQ Option Shuffling : No Is Question Mandatory : No Calculator : None
Response Time : N.A Think Time : N.A Minimum Instruction Time : 0

Correct Marks : 5 Wrong Marks : 1

Question Key Details :

Key	Value
Comprehension	MCQ

Who among the following felt that separate electorates were 'self-destructive' for minorities ?

- (1) M. Ali Jinnah
- (2) Jawaharlal Nehru
- (3) B.R. Ambedkar
- (4) Begum Aizaas Rasul

Options :

485584158401. 1

485584158402. 2

485584158403. 3

485584158404. 4

Question Number : 671 Question Id : 48558439601 Question Type : MCQ Option Shuffling : No Is Question Mandatory : No Calculator : None
Response Time : N.A Think Time : N.A Minimum Instruction Time : 0

Correct Marks : 5 Wrong Marks : 1

Question Key Details :

Key	Value
Comprehension	MCQ

निम्न में से किसने यह महसूस किया कि पृथक निर्वाचक मंडल अल्पसंख्यकों के लिए 'आत्मघाती' साबित होगा ?

- (1) एम. अली जिन्ना
- (2) जवाहरलाल नेहरू
- (3) बी. आर. अम्बेडकर
- (4) बेगम ऐजाज़ रसूल

Options :

485584158401. 1
485584158402. 2
485584158403. 3
485584158404. 4

Question Number : 672 Question Id : 48558439602 Question Type : MCQ Option Shuffling : No Is Question Mandatory : No Calculator : None Response Time : N.A Think Time : N.A Minimum Instruction Time : 0

Correct Marks : 5 Wrong Marks : 1

Question Key Details :

Key	Value
Comprehension	MCQ

Who among the following was the Constitutional Advisor to the Government of India ?

- (1) B.R. Ambedkar
- (2) K.M. Munshi
- (3) S.N. Mukherjee
- (4) B.N. Rau

Options :

485584158405. 1
485584158406. 2
485584158407. 3
485584158408. 4

Question Number : 672 Question Id : 48558439602 Question Type : MCQ Option Shuffling : No Is Question Mandatory : No Calculator : None Response Time : N.A Think Time : N.A Minimum Instruction Time : 0

Correct Marks : 5 Wrong Marks : 1

Question Key Details :

Key	Value
Comprehension	MCQ

इनमें से कौन भारत सरकार के संवैधानिक सलाहकार थे ?

- (1) बी. आर. अम्बेडकर
- (2) के. एम. मुंशी
- (3) एस. एन. मुखर्जी
- (4) बी. एन राव

Options :

485584158405. 1
485584158406. 2
485584158407. 3
485584158408. 4

Question Number : 673 Question Id : 48558439603 Question Type : MCQ Option Shuffling : No Is Question Mandatory : No Calculator : None Response Time : N.A Think Time : N.A Minimum Instruction Time : 0

Correct Marks : 5 Wrong Marks : 1

Question Key Details :

Key	Value
Comprehension	MCQ

Who among the following advocated for 'Hindi' to be declared as a National Language ?

- (1) Srimati G. Durgabai
- (2) Mahatma Gandhi
- (3) R.V. Dhulekar
- (4) Shankarrao Deo

Options :

485584158409. 1
485584158410. 2
485584158411. 3
485584158412. 4

Question Number : 673 Question Id : 48558439603 Question Type : MCQ Option Shuffling : No Is Question Mandatory : No Calculator : None Response Time : N.A Think Time : N.A Minimum Instruction Time : 0

Correct Marks : 5 Wrong Marks : 1

Question Key Details :

Key	Value
Comprehension	MCQ

निम्न में से किसने 'हिंदी' को राष्ट्र भाषा के रूप में घोषित करने की वकालत की ?

- (1) श्रीमती जी. दुर्गाबाई
- (2) महात्मा गाँधी
- (3) आर. वी. धुलेकर
- (4) शंकरराव देव

Options :

485584158409. 1
485584158410. 2
485584158411. 3
485584158412. 4

Question Number : 674 Question Id : 48558439604 Question Type : MCQ Option Shuffling : No Is Question Mandatory : No Calculator : None Response Time : N.A Think Time : N.A Minimum Instruction Time : 0

Correct Marks : 5 Wrong Marks : 1

Question Key Details :

Key	Value
Comprehension	MCQ

Which of the following Articles in the Constitution of India deals with 'cultural and educational rights' ?

- (A) Article 26
- (B) Article 27
- (C) Article 28
- (D) Article 29
- (E) Article 30

Choose the correct answer from the options given below :

- (1) (A), (B) Only
- (2) (B), (C) Only
- (3) (C), (D) Only
- (4) (D), (E) Only

Options :

485584158413. 1
485584158414. 2

485584158415. 3
485584158416. 4

Question Number : 674 Question Id : 48558439604 Question Type : MCQ Option Shuffling : No Is Question Mandatory : No Calculator : None
Response Time : N.A Think Time : N.A Minimum Instruction Time : 0

Correct Marks : 5 Wrong Marks : 1

Question Key Details :

Key	Value
Comprehension	MCQ

निम्नलिखित में से कौन सा अनुच्छेद भारतीय संविधान में सांस्कृतिक एवं शैक्षिक अधिकारों के पक्ष में है ?

- (A) अनुच्छेद 26
- (B) अनुच्छेद 27
- (C) अनुच्छेद 28
- (D) अनुच्छेद 29
- (E) अनुच्छेद 30

नीचे दिए गए विकल्पों में से सही उत्तर का चयन करें :

- (1) (A), (B) केवल
- (2) (B), (C) केवल
- (3) (C), (D) केवल
- (4) (D), (E) केवल

Options :

485584158413. 1
485584158414. 2
485584158415. 3
485584158416. 4

Question Number : 675 Question Id : 48558439605 Question Type : MCQ Option Shuffling : No Is Question Mandatory : No Calculator : None
Response Time : N.A Think Time : N.A Minimum Instruction Time : 0

Correct Marks : 5 Wrong Marks : 1

Question Key Details :

Key	Value
Comprehension	MCQ

Match List - I with List - II.

List - I

- (A) B. Pocker Bahadur
- (B) Hansa Mehta
- (C) Jyotiba Phule
- (D) A. Ramaswamy Mudaliar

List - II

- (I) Maharashtra
- (II) Madras
- (III) Mysore
- (IV) Bombay

Choose the **correct** answer from the options given below :

- (1) (A)-(I), (B)-(II), (C)-(III), (D)-(IV)
- (2) (A)-(II), (B)-(IV), (C)-(III), (D)-(I)
- (3) (A)-(II), (B)-(IV), (C)-(I), (D)-(III)
- (4) (A)-(IV), (B)-(II), (C)-(I), (D)-(III)

Options :

485584158417. 1
485584158418. 2
485584158419. 3

Question Number : 675 Question Id : 48558439605 Question Type : MCQ Option Shuffling : No Is Question Mandatory : No Calculator : None
Response Time : N.A Think Time : N.A Minimum Instruction Time : 0

Correct Marks : 5 Wrong Marks : 1

Question Key Details :

Key	Value
Comprehension	MCQ

सूची - I का सूची - II से मिलान करें :

सूची - I	सूची - II
(A) बी. पोकर बहापुर	(I) महाराष्ट्र
(B) हंसा मेहता	(II) मद्रास
(C) ज्योतिबा फुले	(III) मैसूर
(D) ए. रामस्वामी मुदालियर	(IV) बंबई

नीचे दिए गए विकल्पों में से सही उत्तर का चयन करें :

- (1) (A)-(I), (B)-(II), (C)-(III), (D)-(IV)
- (2) (A)-(II), (B)-(IV), (C)-(III), (D)-(I)
- (3) (A)-(II), (B)-(IV), (C)-(I), (D)-(III)
- (4) (A)-(IV), (B)-(II), (C)-(I), (D)-(III)

Options :

485584158417. 1
485584158418. 2
485584158419. 3
485584158420. 4

Sub-Section Number :	2
Sub-Section Id :	4855842938
Question Shuffling Allowed :	No
Is Section Default? :	null

Question Number : 676 Question Id : 48558439606 Question Type : MCQ Option Shuffling : No Is Question Mandatory : No Calculator : None
Response Time : N.A Think Time : N.A Minimum Instruction Time : 0

Correct Marks : 5 Wrong Marks : 1

Question Key Details :

Key	Value
Comprehension	Comp1

Read the following passage and answer the question :

By the eleventh century, Sufism evolved into a well-developed movement with a body of literature on Quranic studies and Sufi practices. Institutionally, the sufis began to organise communities around the hospice or Khanqah controlled by a teaching master known as shaikh. He enrolled disciples and appointed a successor. He established rules for spiritual conduct and interaction between inmates as well as between laypersons and the master. Sufi silsilas began to crystallise in different parts of the Islamic world around the twelfth century.

In Sufism, the enrolled disciples of a teaching master are called _____.

- (1) Murids
- (2) Khalifa
- (3) Murshid
- (4) Pir

Options :

485584158421. 1

485584158422. 2
485584158423. 3
485584158424. 4

Question Number : 676 Question Id : 48558439606 Question Type : MCQ Option Shuffling : No Is Question Mandatory : No Calculator : None
Response Time : N.A Think Time : N.A Minimum Instruction Time : 0

Correct Marks : 5 Wrong Marks : 1

Question Key Details :

Key	Value
Comprehension	Comp1

निम्नलिखित गद्यांश को ध्यानपूर्वक पढ़कर, दिये गये प्रश्नों के उत्तर दीजिए :

ग्यारहवीं शताब्दी तक आते-आते सूफीवाद एक पूर्ण विकसित आंदोलन था जिसका सूफी और कुरान से जुड़ा अपना साहित्य था। संस्थागत दृष्टि से सूफी अपने को एक संगठित समुदाय-खानकाह के इर्द-गिर्द स्थापित करते थे। खानकाह का नियंत्रण शेख, पीर अथवा मुर्शीद के हाथ में था। वे अनुयायियों को भरती करते थे और अपने वारिस की नियुक्ति करते थे। आध्यात्मिक व्यवहार के नियम निर्धारित करने के अलावा खानकाह में रहने वालों के बीच के संबंध और शेख व जनसामान्य के बीच के रिश्तों की सीमा भी नियत करते थे। बाहरवीं शताब्दी के आसपास इस्लामी दुनिया में सूफी सिलसिलों का गठन होने लगा।

सूफीवाद में, जो अनुयायियों को नामांकित करते थे, वे क्या कहलाते थे?

- (1) मुरीद
- (2) खलीफ़ा
- (3) मुर्शीद
- (4) पीर

Options :

485584158421. 1
485584158422. 2
485584158423. 3
485584158424. 4

Question Number : 677 Question Id : 48558439607 Question Type : MCQ Option Shuffling : No Is Question Mandatory : No Calculator : None
Response Time : N.A Think Time : N.A Minimum Instruction Time : 0

Correct Marks : 5 Wrong Marks : 1

Question Key Details :

Key	Value
Comprehension	Comp1

Read the following passage and answer the question :

By the eleventh century, Sufism evolved into a well-developed movement with a body of literature on Quranic studies and Sufi practices. Institutionally, the sufis began to organise communities around the hospice or Khanqah controlled by a teaching master known as shaikh. He enrolled disciples and appointed a successor. He established rules for spiritual conduct and interaction between inmates as well as between laypersons and the master. Sufi silsilas began to crystallise in different parts of the Islamic world around the twelfth century.

The appointed successor of a sufi teaching master is known as _____.

- (1) Tasawwuf
- (2) Murshid
- (3) Khalifa
- (4) Pir

Options :

485584158425. 1

485584158426. 2
485584158427. 3
485584158428. 4

Question Number : 677 Question Id : 48558439607 Question Type : MCQ Option Shuffling : No Is Question Mandatory : No Calculator : None
Response Time : N.A Think Time : N.A Minimum Instruction Time : 0

Correct Marks : 5 Wrong Marks : 1

Question Key Details :

Key	Value
Comprehension	Comp1

निम्नलिखित गद्यांश को ध्यानपूर्वक पढ़कर, दिये गये प्रश्नों के उत्तर दीजिए :

ग्यारहवीं शताब्दी तक आते-आते सूफीवाद एक पूर्ण विकसित आंदोलन था जिसका सूफी और कुरान से जुड़ा अपना साहित्य था। संस्थागत दृष्टि से सूफी अपने को एक संगठित समुदाय-खानकाह के इर्द-गिर्द स्थापित करते थे। खानकाह का नियंत्रण शेख, पीर अथवा मुर्शीद के हाथ में था। वे अनुयायियों को भरती करते थे और अपने वारिस की नियुक्ति करते थे। आध्यात्मिक व्यवहार के नियम निर्धारित करने के अलावा खानकाह में रहने वालों के बीच के संबंध और शेख व जनसामान्य के बीच के रिश्तों की सीमा भी नियत करते थे। बाहरवीं शताब्दी के आसपास इस्लामी दुनिया में सूफी सिलसिलों का गठन होने लगा।

सूफी शेख द्वारा नियुक्त उनका वारिस क्या कहलाता था ?

- (1) तसव्वुफ़
- (2) मुर्शीद
- (3) खलीफ़ा
- (4) पीर

Options :

485584158425. 1
485584158426. 2
485584158427. 3
485584158428. 4

Question Number : 678 Question Id : 48558439608 Question Type : MCQ Option Shuffling : No Is Question Mandatory : No Calculator : None
Response Time : N.A Think Time : N.A Minimum Instruction Time : 0

Correct Marks : 5 Wrong Marks : 1

Question Key Details :

Key	Value
Comprehension	Comp1

Read the following passage and answer the question :

By the eleventh century, Sufism evolved into a well-developed movement with a body of literature on Quranic studies and Sufi practices. Institutionally, the sufis began to organise communities around the hospice or Khanqah controlled by a teaching master known as shaikh. He enrolled disciples and appointed a successor. He established rules for spiritual conduct and interaction between inmates as well as between laypersons and the master. Sufi silsilas began to crystallise in different parts of the Islamic world around the twelfth century.

The sufis who deliberately defied the Islamic law and ignored rituals were referred to as _____.

- (1) Hadis
- (2) Ba-shari'a
- (3) Qiyas
- (4) Be-shari'a

Options :

485584158429. 1

485584158430. 2
485584158431. 3
485584158432. 4

Question Number : 678 Question Id : 48558439608 Question Type : MCQ Option Shuffling : No Is Question Mandatory : No Calculator : None
Response Time : N.A Think Time : N.A Minimum Instruction Time : 0

Correct Marks : 5 Wrong Marks : 1

Question Key Details :

Key	Value
Comprehension	Compl

निम्नलिखित गद्यांश को ध्यानपूर्वक पढ़कर, दिये गये प्रश्नों के उत्तर दीजिए :

ग्यारहवीं शताब्दी तक आते-आते सूफीवाद एक पूर्ण विकसित आंदोलन था जिसका सूफी और कुरान से जुड़ा अपना साहित्य था। संस्थागत दृष्टि से सूफी अपने को एक संगठित समुदाय-खानकाह के इर्द-गिर्द स्थापित करते थे। खानकाह का नियंत्रण शेख, पीर अथवा मुर्शीद के हाथ में था। वे अनुयायियों की भरती करते थे और अपने वारिस की नियुक्ति करते थे। आध्यात्मिक व्यवहार के नियम निर्धारित करने के अलावा खानकाह में रहने वालों के बीच के संबंध और शेख व जनसामान्य के बीच के रिश्तों की सीमा भी नियत करते थे। बाहरवीं शताब्दी के आसपास इस्लामी दुनिया में सूफी सिलसिलों का गठन होने लगा।

वे सूफी जो इस्लामिक नियमों और रीतियों की अवहेलना करते थे, क्या कहलाते थे ?

- (1) हदीस
- (2) बा-शरिया
- (3) क्रियास
- (4) बे-शरिया

Options :

485584158429. 1
485584158430. 2
485584158431. 3
485584158432. 4

Question Number : 679 Question Id : 48558439609 Question Type : MCQ Option Shuffling : No Is Question Mandatory : No Calculator : None
Response Time : N.A Think Time : N.A Minimum Instruction Time : 0

Correct Marks : 5 Wrong Marks : 1

Question Key Details :

Key	Value
Comprehension	Compl

Read the following passage and answer the question :

By the eleventh century, Sufism evolved into a well-developed movement with a body of literature on Quranic studies and Sufi practices. Institutionally, the sufis began to organise communities around the hospice or Khanqah controlled by a teaching master known as shaikh. He enrolled disciples and appointed a successor. He established rules for spiritual conduct and interaction between inmates as well as between laypersons and the master. Sufi silsilas began to crystallise in different parts of the Islamic world around the twelfth century.

What is the word for 'Sufism' in Islamic texts ?

- (1) Tasawwuf
- (2) Suf
- (3) Safa
- (4) Suffa

Options :

485584158433. 1

485584158434. 2
485584158435. 3
485584158436. 4

Question Number : 679 Question Id : 48558439609 Question Type : MCQ Option Shuffling : No Is Question Mandatory : No Calculator : None
Response Time : N.A Think Time : N.A Minimum Instruction Time : 0

Correct Marks : 5 Wrong Marks : 1

Question Key Details :

Key	Value
Comprehension	Compl

निम्नलिखित गद्यांश को ध्यानपूर्वक पढ़कर, दिये गये प्रश्नों के उत्तर दीजिए :

ग्यारहवीं शताब्दी तक आते-आते सूफीवाद एक पूर्ण विकसित आंदोलन था जिसका सूफी और कुरान से जुड़ा अपना साहित्य था। संस्थागत दृष्टि से सूफी अपने को एक संगठित समुदाय-खानकाह के इर्द-गिर्द स्थापित करते थे। खानकाह का नियंत्रण शेख, पीर अथवा मुर्शीद के हाथ में था। वे अनुयायियों की भरती करते थे और अपने वारिस की नियुक्ति करते थे। आध्यात्मिक व्यवहार के नियम निर्धारित करने के अलावा खानकाह में रहने वालों के बीच के संबंध और शेख व जनसामान्य के बीच के रिश्तों की सीमा भी नियत करते थे। बाहरवीं शताब्दी के आसपास इस्लामी दुनिया में सूफी सिलसिलों का गठन होने लगा।

इस्लामिक ग्रंथों में सूफीवाद के लिए कौन-सा शब्द है ?

- (1) तसव्वुफ़
- (2) सूफ
- (3) सफ़ा
- (4) सुफ़ा

Options :

485584158433. 1
485584158434. 2
485584158435. 3
485584158436. 4

Question Number : 680 Question Id : 48558439610 Question Type : MCQ Option Shuffling : No Is Question Mandatory : No Calculator : None
Response Time : N.A Think Time : N.A Minimum Instruction Time : 0

Correct Marks : 5 Wrong Marks : 1

Question Key Details :

Key	Value
Comprehension	Compl

Read the following passage and answer the question :

By the eleventh century, Sufism evolved into a well-developed movement with a body of literature on Quranic studies and Sufi practices. Institutionally, the sufis began to organise communities around the hospice or Khanqah controlled by a teaching master known as shaikh. He enrolled disciples and appointed a successor. He established rules for spiritual conduct and interaction between inmates as well as between laypersons and the master. Sufi silsilas began to crystallise in different parts of the Islamic world around the twelfth century.

Which of the following rituals were developed in Sufism that disciples took during initiation ?

- (A) An oath of allegiance.
- (B) Wearing a patched garment.
- (C) Pilgrimage to the master's grave.
- (D) Shaving of the head.
- (E) Drinking of the holy water.

Choose the **correct** answer from the options given below :

- (1) (A), (B), (C) Only
- (2) (A), (B), (D) Only
- (3) (C), (D), (E) Only
- (4) (B), (C), (D) Only

Options :

- 485584158437. 1
- 485584158438. 2
- 485584158439. 3
- 485584158440. 4

Question Number : 680 Question Id : 48558439610 Question Type : MCQ Option Shuffling : No Is Question Mandatory : No Calculator : None
Response Time : N.A Think Time : N.A Minimum Instruction Time : 0

Correct Marks : 5 Wrong Marks : 1

Question Key Details :

Key	Value
Comprehension	Comp1

निम्नलिखित गद्यांश को ध्यानपूर्वक पढ़कर, दिये गये प्रश्नों के उत्तर दीजिए :

ग्यारहवीं शताब्दी तक आते-आते सूफीवाद एक पूर्ण विकसित आंदोलन था जिसका सूफी और कुरान से जुड़ा अपना साहित्य था। संस्थागत दृष्टि से सूफी अपने को एक संगठित समुदाय-खानकाह के इर्द-गिर्द स्थापित करते थे। खानकाह का नियंत्रण शेख, पीर अथवा मुशीद के हाथ में था। वे अनुयायियों की भरती करते थे और अपने वारिस की नियुक्ति करते थे। आध्यात्मिक व्यवहार के नियम निर्धारित करने के अलावा खानकाह में रहने वालों के बीच के संबंध और शेख व जनसामान्य के बीच के रिश्तों की सीमा भी नियत करते थे। बाहरवीं शताब्दी के आसपास इस्लामी दुनिया में सूफी सिलसिलों का गठन होने लगा।

दीक्षा के दौरान शिष्यों द्वारा ग्रहण किए जानेवाले सूफीवाद में निम्नलिखित में से कौन सा अनुष्ठान विकसित हुआ था?

- (A) निष्ठा का वचन देना।
- (B) श्वेगड़ी लगेवस्त्र धारण करना।
- (C) पीर की दरगाह पर जियारत।
- (D) सिर मुंडना।
- (E) पवित्र जल को पीना।

नीचे दिए गए विकल्पों में से सही उत्तर का चयन करें :

- (1) (A), (B), (C) केवल
- (2) (A), (B), (D) केवल
- (3) (C), (D), (E) केवल
- (4) (B), (C), (D) केवल

Options :

- 485584158437. 1
- 485584158438. 2
- 485584158439. 3
- 485584158440. 4

Sub-Section Number : 3
Sub-Section Id : 4855842939
Question Shuffling Allowed : No
Is Section Default? : null

Question Number : 681 Question Id : 48558439611 Question Type : MCQ Option Shuffling : No Is Question Mandatory : No Calculator : None
Response Time : N.A Think Time : N.A Minimum Instruction Time : 0

Correct Marks : 5 Wrong Marks : 1

Question Key Details :

Key	Value
Comprehension	Comp2

Read the following passage and answer the question :

To fight the British, leadership and organisation were required. For these the rebels sometimes turned to those who had been leaders before the British conquest. One of the first acts of the sepoys of Meerut was to rush to Delhi and appeal to the old Mughal emperor to accept the leadership of the revolt. This acceptance of leadership took its time in coming. Bahadur Shah's first reaction was one of the horror and rejection. It was only when some sepoys had moved into the Mughal court within the Red Fort that the old emperor agreed to be the nominal leader of the rebellion.

When did the rebel sepoys arrive at the gates of the Red Fort ?

- (1) 10 May 1857
- (2) 11 May 1857
- (3) 12 May 1857
- (4) 13 May 1857

Options :

485584158441. 1
485584158442. 2
485584158443. 3
485584158444. 4

Question Number : 681 Question Id : 48558439611 Question Type : MCQ Option Shuffling : No Is Question Mandatory : No Calculator : None Response Time : N.A Think Time : N.A Minimum Instruction Time : 0

Correct Marks : 5 Wrong Marks : 1

Question Key Details :

Key	Value
Comprehension	Comp2

निम्नलिखित गद्यांश को ध्यानपूर्वक पढ़कर, दिये गये प्रश्नों के उत्तर दीजिए :

अंग्रेजों से लोहा लेने के लिए नेतृत्व और संगठन जरूरी थे। इन लक्ष्यों को हासिल करने के लिए विद्रोहियों ने कई बार ऐसे लोगों की शरण ली जो अंग्रेजों से पहले नेताओं की भूमिका निभाते थे। जैसा कि हम पीछे देख चुके हैं, मेरठ के सिपाहियों ने सबसे पहले जो काम किए उनमें एक यह था कि वे फौरन दिल्ली गए और उन्होंने बूढ़े हो चुके मुगल बादशाह से विद्रोह का नेतृत्व स्वीकार करने की दरखवास्त की। लेकिन इस निवेदन पर सहमति हासिल करने में भी वक्रत लगा बहादुर शाह इस खबर पर भयभति और बैचैन दिखाई दिए। बहादुर शाह ने नाममात्र का नेता बबने की जिम्मेदारी भी तब स्वीकार की जब कुछ सिपाही शाही शिष्टाचार की अवहेलना करते हुए जबरन लाल किले के मुगल दरबार में जा घुसे और बहादुर शाह के पास वाकई कोई चारा नहीं बचा था।

कब विद्रोही सिपाही लाल किले के फाटक पर पहुँचा ?

- (1) 10 मई 1857
- (2) 11 मई 1857
- (3) 12 मई 1857
- (4) 13 मई 1857

Options :

485584158441. 1
485584158442. 2
485584158443. 3
485584158444. 4

Question Number : 682 Question Id : 48558439612 Question Type : MCQ Option Shuffling : No Is Question Mandatory : No Calculator : None Response Time : N.A Think Time : N.A Minimum Instruction Time : 0

Correct Marks : 5 Wrong Marks : 1

Question Key Details :

Key	Value
-----	-------

Read the following passage and answer the question :

To fight the British, leadership and organisation were required. For these the rebels sometimes turned to those who had been leaders before the British conquest. One of the first acts of the sepoys of Meerut was to rush to Delhi and appeal to the old Mughal emperor to accept the leadership of the revolt. This acceptance of leadership took its time in coming. Bahadur Shah's first reaction was one of the horror and rejection. It was only when some sepoys had moved into the Mughal court within the Red Fort that the old emperor agreed to be the nominal leader of the rebellion.

What is the origin of the term 'Firangi' ?

- (1) Hindi
- (2) Urdu
- (3) French
- (4) Persian

Options :

485584158445. 1
485584158446. 2
485584158447. 3
485584158448. 4

Question Number : 682 Question Id : 48558439612 Question Type : MCQ Option Shuffling : No Is Question Mandatory : No Calculator : None Response Time : N.A Think Time : N.A Minimum Instruction Time : 0

Correct Marks : 5 Wrong Marks : 1

Question Key Details :

Key	Value
Comprehension	Comp2

निम्नलिखित गद्यांश को ध्यानपूर्वक पढ़कर, दिये गये प्रश्नों के उत्तर दीजिए :

अंग्रेजों से लोहा लेने के लिए नेतृत्व और संगठन जरूरी थे। इन लक्ष्यों को हासिल करने के लिए विद्रोहियों ने कई बार ऐसे लोगों की शरण ली जो अंग्रेजों से पहले नेताओं की भूमिका निभाते थे। जैसा कि हम पीछे देख चुके हैं, मेरठ के सिपाहियों ने सबसे पहले जो काम किए उनमें एक यह था कि वे फ़ौरन दिल्ली गए और उन्होंने बूढ़े हो चुके मुगल बादशाह से विद्रोह का नेतृत्व स्वीकार करने की दरख़्वास्त की। लेकिन इस निवेदन पर सहमति हासिल करने में भी वक़्त लगा बहादुर शाह इस ख़बर पर भयभक्ति और बैचन दिखाई दिए। बहादुर शाह ने नाममात्र का नेता बबने की ज़िम्मेदारी भी तब स्वीकार की जब कुछ सिपाही शाही शिष्टाचार की अवहेलना करते हुए जबरन लाल क़िले के मुगल दरबार में जा घुसे और बहादुर शाह के पास वाकई कोई चारा नहीं बचा था।

'फिरंगी' शब्द की उत्पत्ति किससे हुई है ?

- (1) हिंदी
- (2) उर्दू
- (3) फ़्रांसीसी
- (4) फ़ारसी

Options :

485584158445. 1
485584158446. 2
485584158447. 3
485584158448. 4

Question Number : 683 Question Id : 48558439613 Question Type : MCQ Option Shuffling : No Is Question Mandatory : No Calculator : None Response Time : N.A Think Time : N.A Minimum Instruction Time : 0

Correct Marks : 5 Wrong Marks : 1

Question Key Details :

Key	Value
Comprehension	Comp2

Read the following passage and answer the question :

To fight the British, leadership and organisation were required. For these the rebels sometimes turned to those who had been leaders before the British conquest. One of the first acts of the sepoys of Meerut was to rush to Delhi and appeal to the old Mughal emperor to accept the leadership of the revolt. This acceptance of leadership took its time in coming. Bahadur Shah's first reaction was one of the horror and rejection. It was only when some sepoys had moved into the Mughal court within the Red Fort that the old emperor agreed to be the nominal leader of the rebellion.

Who did the people of Lucknow hail as their leader during the Revolt of 1857 ?

- (1) Kunwar Singh
- (2) Nawab Wajid Ali Shah
- (3) Birjis Qadr
- (4) Shah Mal

Options :

485584158449. 1
485584158450. 2
485584158451. 3
485584158452. 4

Question Number : 683 Question Id : 48558439613 Question Type : MCQ Option Shuffling : No Is Question Mandatory : No Calculator : None Response Time : N.A Think Time : N.A Minimum Instruction Time : 0

Correct Marks : 5 Wrong Marks : 1

Question Key Details :

Key	Value
Comprehension	Comp2

निम्नलिखित गद्यांश को ध्यानपूर्वक पढ़कर, दिये गये प्रश्नों के उत्तर दीजिए :

अंग्रेजों से लोहा लेने के लिए नेतृत्व और संगठन जरूरी थे। इन लक्ष्यों को हासिल करने के लिए विद्रोहियों ने कई बार ऐसे लोगों की शरण ली जो अंग्रेजों से पहले नेताओं की भूमिका निभाते थे। जैसा कि हम पीछे देख चुके हैं, मेरठ के सिपाहियों ने सबसे पहले जो काम किए उनमें एक यह था कि वे फ़ौरन दिल्ली गए और उन्होंने बूढ़े हो चुके मुगल बादशाह से विद्रोह का नेतृत्व स्वीकार करने की दरख्वास्त की। लेकिन इस निवेदन पर सहमति हासिल करने में भी वक़्त लगा बहादुर शाह इस ख़बर पर भयभति और बैचैन दिखाई दिए। बहादुर शाह ने नाममात्र का नेता बबने की ज़िम्मेदारी भी तब स्वीकार की जब कुछ सिपाही शाही शिष्टाचार की अवहेलना करते हुए जबरन लाल क़िले के मुगल दरबार में जा घुसे और बहादुर शाह के पास वाकई कोई चारा नहीं बचा था।

1857 के विद्रोह के दौरान लखनऊ के लोगों द्वारा अपने नेता के रूप में किसको घोषित किया गया ?

- (1) कुँवर सिंह
- (2) नवाब वाजिद अली शाह
- (3) बिरजिस कद्र
- (4) शाह मल

Options :

485584158449. 1
485584158450. 2
485584158451. 3
485584158452. 4

Question Number : 684 Question Id : 48558439614 Question Type : MCQ Option Shuffling : No Is Question Mandatory : No Calculator : None Response Time : N.A Think Time : N.A Minimum Instruction Time : 0

Correct Marks : 5 Wrong Marks : 1

Question Key Details :

Key	Value
Comprehension	Comp2

Read the following passage and answer the question :

To fight the British, leadership and organisation were required. For these the rebels sometimes turned to those who had been leaders before the British conquest. One of the first acts of the sepoys of Meerut was to rush to Delhi and appeal to the old Mughal emperor to accept the leadership of the revolt. This acceptance of leadership took its time in coming. Bahadur Shah's first reaction was one of the horror and rejection. It was only when some sepoys had moved into the Mughal court within the Red Fort that the old emperor agreed to be the nominal leader of the rebellion.

Who mobilised the headmen and cultivators of eighty-four villages of Barout during 1857 ?

- (1) Nana Sahib
- (2) Rana Jhansi
- (3) Shal Mal
- (4) Kunwar Singh

Options :

485584158453. 1
485584158454. 2
485584158455. 3
485584158456. 4

Question Number : 684 Question Id : 48558439614 Question Type : MCQ Option Shuffling : No Is Question Mandatory : No Calculator : None
Response Time : N.A Think Time : N.A Minimum Instruction Time : 0

Correct Marks : 5 Wrong Marks : 1

Question Key Details :

Key	Value
Comprehension	Comp2

निम्नलिखित गद्यांश को ध्यानपूर्वक पढ़कर, दिये गये प्रश्नों के उत्तर दीजिए :

अंग्रेजों से लोहा लेने के लिए नेतृत्व और संगठन जरूरी थे। इन लक्ष्यों को हासिल करने के लिए विद्रोहियों ने कई बार ऐसे लोगों की शरण ली जो अंग्रेजों से पहले नेताओं की भूमिका निभाते थे। जैसा कि हम पीछे देख चुके हैं, मेरठ के सिपाहियों ने सबसे पहले जो काम किए उनमें एक यह था कि वे फौरन दिल्ली गए और उन्होंने बड़े हो चुके मुगल बादशाह से विद्रोह का नेतृत्व स्वीकार करने की दरख्वास्त की। लेकिन इस निवेदन पर सहमति हासिल करने में भी वक़्त लगा बहादुर शाह इस ख़बर पर भयभति और बैचैन दिखाई दिए। बहादुर शाह ने नाममात्र का नेता बबने की जिम्मेदारी भी तब स्वीकार की जब कुछ सिपाही शाही शिष्टाचार की अवहेलना करते हुए जबरन लाल क़िले के मुगल दरबार में जा घुसे और बहादुर शाह के पास वाकई कोई चारा नहीं बचा था।

1857 के दौरान किसने बड़ौत के चौरासी गाँव के मुखियाओं और काश्तकारों को संगठित किया?

- (1) नाना साहिब
- (2) रानी झाँसी
- (3) शाह मल
- (4) कुँवर सिंह

Options :

485584158453. 1
485584158454. 2
485584158455. 3
485584158456. 4

Question Number : 685 Question Id : 48558439615 Question Type : MCQ Option Shuffling : No Is Question Mandatory : No Calculator : None
Response Time : N.A Think Time : N.A Minimum Instruction Time : 0

Correct Marks : 5 Wrong Marks : 1

Question Key Details :

Key	Value
Comprehension	Comp2

Read the following passage and answer the question :

To fight the British, leadership and organisation were required. For these the rebels sometimes turned to those who had been leaders before the British conquest. One of the first acts of the sepoys of Meerut was to rush to Delhi and appeal to the old Mughal emperor to accept the leadership of the revolt. This acceptance of leadership took its time in coming. Bahadur Shah's first reaction was one of the horror and rejection. It was only when some sepoys had moved into the Mughal court within the Red Fort that the old emperor agreed to be the nominal leader of the rebellion.

Who among the following was elected by the mutinous 22nd Native Infantry as their leader ?

- (1) Ahmadullah Shah
- (2) Shah Mal
- (3) Birjis Qadr
- (4) Kunwar Singh

Options :

485584158457. 1
485584158458. 2
485584158459. 3
485584158460. 4

Question Number : 685 Question Id : 48558439615 Question Type : MCQ Option Shuffling : No Is Question Mandatory : No Calculator : None
Response Time : N.A Think Time : N.A Minimum Instruction Time : 0

Correct Marks : 5 Wrong Marks : 1

Question Key Details :

Key	Value
Comprehension	Comp2

निम्नलिखित गद्यांश को ध्यानपूर्वक पढ़कर, दिये गये प्रश्नों के उत्तर दीजिए :

अंग्रेजों से लोहा लेने के लिए नेतृत्व और संगठन जरूरी थे। इन लक्ष्यों को हासिल करने के लिए विद्रोहियों ने कई बार ऐसे लोगों की शरण ली जो अंग्रेजों से पहले नेताओं की भूमिका निभाते थे। जैसा कि हम पीछे देख चुके हैं, मेरठ के सिपाहियों ने सबसे पहले जो काम किए उनमें एक यह था कि वे फौरन दिल्ली गए और उन्होंने बृढ़े हो चुके मुगल बादशाह से विद्रोह का नेतृत्व स्वीकार करने की दरख्वास्त की। लेकिन इस निवेदन पर सहमति हासिल करने में भी वक्रत लगा बहादुर शाह इस खबर पर भयभति और बैचैन दिखाई दिए। बहादुर शाह ने नाममात्र का नेता बबने की जिम्मेदारी भी तब स्वीकार की जब कुछ सिपाही शाही शिष्टाचार की अवहेलना करते हुए जबरन लाल किले के मुगल दरबार में जा घुसे और बहादुर शाह के पास वाकई कोई चारा नहीं बचा था।

इनमें से किसे 22 वीं नेटिव इन्फेन्ट्री विद्रोहियों द्वारा अपना नेता चुना गया ?

- (1) अहमदुल्लाह शाह
- (2) शाह मल
- (3) बिराजिस कद्र
- (4) कुँवर सिंह

Options :

485584158457. 1
485584158458. 2
485584158459. 3
485584158460. 4

Home Science

Group Number :	15
Group Id :	485584896
Group Maximum Duration :	45
Group Minimum Duration :	45
Show Attended Group? :	No
Edit Attended Group? :	No
Break time :	0
Group Marks :	200
Is this Group for Examiner? :	No
Examiner permission :	Cant View
Show Progress Bar? :	No

Home Science

Section Id :	4855841038
Section Number :	1
Section type :	Online
Mandatory or Optional :	Mandatory
Number of Questions :	50
Number of Questions to be attempted :	40
Section Marks :	200
Enable Mark as Answered Mark for Review and Clear Response :	Yes
Maximum Instruction Time :	0
Sub-Section Number :	1
Sub-Section Id :	4855842940
Question Shuffling Allowed :	Yes
Is Section Default? :	null

Question Number : 686 Question Id : 48558438511 Question Type : MCQ Option Shuffling : No Is Question Mandatory : No Calculator : None Response Time : N.A Think Time : N.A Minimum Instruction Time : 0

Correct Marks : 5 Wrong Marks : 1

Question Key Details :

Key	Value
Comprehension	MCQ

In which year, Government of India announced the setting up of mega food processing parks for boosting food processing industry in India ?

1. 2011
2. 2010
3. 2012
4. 2016

Options :

- 485584154041. 1
- 485584154042. 2
- 485584154043. 3
- 485584154044. 4

Question Number : 686 Question Id : 48558438511 Question Type : MCQ Option Shuffling : No Is Question Mandatory : No Calculator : None Response Time : N.A Think Time : N.A Minimum Instruction Time : 0

Correct Marks : 5 Wrong Marks : 1

Question Key Details :

Key	Value
Comprehension	MCQ

किस वर्ष में, भारत सरकार ने भारत में खाद्य प्रसंस्करण उद्योग को बढ़ावा देने के लिए मेगा खाद्य प्रसंस्करण पार्कों की स्थापना की घोषणा की ?

1. 2011
2. 2010
3. 2012
4. 2016

Options :

485584154041. 1
485584154042. 2
485584154043. 3
485584154044. 4

Question Number : 687 Question Id : 48558438512 Question Type : MCQ Option Shuffling : No Is Question Mandatory : No Calculator : None Response Time : N.A Think Time : N.A Minimum Instruction Time : 0

Correct Marks : 5 Wrong Marks : 1

Question Key Details :

Key	Value
Comprehension	MCQ

Which of the following falls under voluntary product certification ?

1. ISI
2. FPO
3. Meat Food Products Order
4. Vegetable Oil Products Order

Options :

485584154045. 1
485584154046. 2
485584154047. 3
485584154048. 4

Question Number : 687 Question Id : 48558438512 Question Type : MCQ Option Shuffling : No Is Question Mandatory : No Calculator : None Response Time : N.A Think Time : N.A Minimum Instruction Time : 0

Correct Marks : 5 Wrong Marks : 1

Question Key Details :

Key	Value
Comprehension	MCQ

निम्नलिखित में से कौन-सा "खैच्छिक उत्पाद प्रमाणन" के अंतर्गत आता है?

1. आई एस आई
2. एफ पी ओ
3. मांस खाद्य उत्पादों का क्रम
4. वनस्पति तेल उत्पादों का क्रम

Options :

485584154045. 1
485584154046. 2
485584154047. 3
485584154048. 4

Question Number : 688 Question Id : 48558438513 Question Type : MCQ Option Shuffling : No Is Question Mandatory : No Calculator : None Response Time : N.A Think Time : N.A Minimum Instruction Time : 0

Correct Marks : 5 Wrong Marks : 1

Question Key Details :

Key	Value
Comprehension	MCQ

Non-nutrient constituents present in foods that have physiological or biological activity and influence health are referred as _____

1. Nutraceuticals
2. Phytochemicals
3. Medical foods
4. Modified foods

Options :

485584154049. 1
485584154050. 2
485584154051. 3
485584154052. 4

Question Number : 688 Question Id : 48558438513 Question Type : MCQ Option Shuffling : No Is Question Mandatory : No Calculator : None Response Time : N.A Think Time : N.A Minimum Instruction Time : 0

Correct Marks : 5 Wrong Marks : 1

Question Key Details :

Key	Value
Comprehension	MCQ

खाद्य पदार्थों में मौजूद गैर-पोषाक घटक जिनमें शारीरिक या जैविक गतिविधि होती है और स्वास्थ्य को प्रभावित करते हैं कहलाते हैं।

1. पौष्टिक औषधियाँ
2. पादप रासायनिक
3. चिकित्सीय पदार्थ
4. रूपांतरित पदार्थ

Options :

485584154049. 1
485584154050. 2
485584154051. 3
485584154052. 4

Question Number : 689 Question Id : 48558438514 Question Type : MCQ Option Shuffling : No Is Question Mandatory : No Calculator : None Response Time : N.A Think Time : N.A Minimum Instruction Time : 0

Correct Marks : 5 Wrong Marks : 1

Question Key Details :

Key	Value
Comprehension	MCQ

Diet given during severe infections, gastrointestinal disorders and in early phase of recovery after surgery is

1. Regular diet
2. Liquid diet
3. Soft diet
4. Mechanical soft diet

Options :

485584154053. 1
485584154054. 2
485584154055. 3
485584154056. 4

Question Number : 689 Question Id : 48558438514 Question Type : MCQ Option Shuffling : No Is Question Mandatory : No Calculator : None Response Time : N.A Think Time : N.A Minimum Instruction Time : 0

Correct Marks : 5 Wrong Marks : 1

Question Key Details :

Key	Value
Comprehension	MCQ

गंभीर संक्रमण, गैस्ट्रोइंटेस्टाइटल विकारों के दौरान और सर्जरी के बाद रिकवरी के शुरूआती चरण में दिया जाने वाला आहार _____ होता है।

1. नियमित आहार
2. द्रवीय आहार
3. नरम आहार
4. यांत्रिक नरम आहार

Options :

485584154053. 1
485584154054. 2
485584154055. 3
485584154056. 4

Question Number : 690 Question Id : 48558438515 Question Type : MCQ Option Shuffling : No Is Question Mandatory : No Calculator : None Response Time : N.A Think Time : N.A Minimum Instruction Time : 0

Correct Marks : 5 Wrong Marks : 1

Question Key Details :

Key	Value
Comprehension	MCQ

Which of the following is NOT a characteristic feature of HACCP ?

1. It enables us to detect hazards at any stage of processing or manufacture in order to ensure a good quality end product.
2. It enables only farmers to utilize resources efficiently and in a cost effective manner for assuring food safety.
3. It assures consistent by good quality products
4. It is important for consumer protection and international food trade

Options :

485584154057. 1

485584154058. 2
485584154059. 3
485584154060. 4

Question Number : 690 Question Id : 48558438515 Question Type : MCQ Option Shuffling : No Is Question Mandatory : No Calculator : None
Response Time : N.A Think Time : N.A Minimum Instruction Time : 0

Correct Marks : 5 Wrong Marks : 1

Question Key Details :

Key	Value
Comprehension	MCQ

निम्नलिखित में से कौन-सी एच ए सी सी पी की एक विशेषता नहीं है ?

1. यह हमें अंतिम उत्पाद की गुणवत्ता सुनिश्चित करने हेतु प्रसंस्करण या विनिर्माण के किसी भी चरण में निहित जोखिम को जानने में सक्षम बनाता है।
2. खाद्य सुरक्षा निश्चित करने हेतु केवल किसानों को संसाधनों का कुशलपूर्वक और लागत प्रभाव तरीके से उपयोग करने में सक्षम बनाता है।
3. यह नियमित रूप से अच्छी गुणवत्ता वाले उत्पाद सुनिश्चित करता है।
4. यह उपभोक्ता संरक्षण और अंतर्राष्ट्रीय खाद्य व्यापार के लिए महत्त्वपूर्ण है।

Options :

485584154057. 1
485584154058. 2
485584154059. 3
485584154060. 4

Question Number : 691 Question Id : 48558438516 Question Type : MCQ Option Shuffling : No Is Question Mandatory : No Calculator : None
Response Time : N.A Think Time : N.A Minimum Instruction Time : 0

Correct Marks : 5 Wrong Marks : 1

Question Key Details :

Key	Value
Comprehension	MCQ

Which of the following nutrition programme in India aim to prevent blindness caused by vitamin - A deficiency ?

1. Nutrient Deficiency Control Programme
2. Food supplementation Programme
3. Food security programme
4. Integrated Child Development Services

Options :

485584154061. 1
485584154062. 2
485584154063. 3
485584154064. 4

Question Number : 691 Question Id : 48558438516 Question Type : MCQ Option Shuffling : No Is Question Mandatory : No Calculator : None
Response Time : N.A Think Time : N.A Minimum Instruction Time : 0

Correct Marks : 5 Wrong Marks : 1

Question Key Details :

Key	Value
Comprehension	MCQ

भारत में निम्नलिखित में से किस कार्यक्रम का उद्देश्य विटामिन ए की कमी से होने वाली दृष्टिहीनता की रोकना है ?

1. पोषक तत्व रोग नियंत्रण कार्यक्रम
2. खाद्य अनुपूरक कार्यक्रम
3. खाद्य सुरक्षा कार्यक्रम
4. समन्वित बाल विकास सेवाएं

Options :

485584154061. 1
485584154062. 2
485584154063. 3
485584154064. 4

Question Number : 692 Question Id : 48558438517 Question Type : MCQ Option Shuffling : No Is Question Mandatory : No Calculator : None Response Time : N.A Think Time : N.A Minimum Instruction Time : 0

Correct Marks : 5 Wrong Marks : 1

Question Key Details :

Key	Value
Comprehension	MCQ

Who among the following developed the canning process in the year 1810?

1. Louis Pasteur
2. Nicolas Appert
3. Charles Darwin
4. Levis Strauss

Options :

485584154065. 1
485584154066. 2
485584154067. 3
485584154068. 4

Question Number : 692 Question Id : 48558438517 Question Type : MCQ Option Shuffling : No Is Question Mandatory : No Calculator : None Response Time : N.A Think Time : N.A Minimum Instruction Time : 0

Correct Marks : 5 Wrong Marks : 1

Question Key Details :

Key	Value
Comprehension	MCQ

निम्नलिखित में से किसने वर्ष 1810 में डिब्बाबंदी प्रक्रिया को विकसित किया था?

1. लुई पाश्चर
2. निकोलस एपर्ट
3. चार्ल्स डार्विन
4. लेविस स्ट्रास

Options :

485584154065. 1
485584154066. 2
485584154067. 3
485584154068. 4

Question Number : 693 Question Id : 48558438518 Question Type : MCQ Option Shuffling : No Is Question Mandatory : No Calculator : None
Response Time : N.A Think Time : N.A Minimum Instruction Time : 0

Correct Marks : 5 Wrong Marks : 1

Question Key Details :

Key	Value
Comprehension	MCQ

The mission of public health nutrition is to :

1. Prevent overnutrition and maintain optimal nutritional status of individual and family
2. Prevent undernutrition and maintain optimal nutritional status of individual and population
3. Prevent both over nutrition and undernutrition and maintain optimal nutritional status of the population
4. Promote under and over nutritional status among the population

Options :

- 485584154069. 1
- 485584154070. 2
- 485584154071. 3
- 485584154072. 4

Question Number : 693 Question Id : 48558438518 Question Type : MCQ Option Shuffling : No Is Question Mandatory : No Calculator : None
Response Time : N.A Think Time : N.A Minimum Instruction Time : 0

Correct Marks : 5 Wrong Marks : 1

Question Key Details :

Key	Value
Comprehension	MCQ

जन स्वास्थ्य पोषण का लक्ष्य है:

1. अतिपोषण को रोकना और व्यक्ति और परिवार के इष्टम पोषण को बनाए रखना
2. अल्पपोषण को रोकना और व्यक्ति और जनसंख्या के इष्टम पोषण को बनाए रखना
3. अतिपोषण और अल्पपोषण दोनों को रोकना तथा आबादी के इष्टम पोषण को बनाए रखना
4. आबादी के बीच अतिपोषण और अल्पपोषण दोनों को बढ़ावा देना

Options :

- 485584154069. 1
- 485584154070. 2
- 485584154071. 3
- 485584154072. 4

Question Number : 694 Question Id : 48558438519 Question Type : MCQ Option Shuffling : No Is Question Mandatory : No Calculator : None
Response Time : N.A Think Time : N.A Minimum Instruction Time : 0

Correct Marks : 5 Wrong Marks : 1

Question Key Details :

Key	Value
Comprehension	MCQ

What are the career avenues after specializing in Food Processing and Technology ?

- A. Production manager
- B. Teaching and Research
- C. Day care centres
- D. Quality assurance
- E. Sensory evaluation

1. A, C, D and E only
2. A, B, C and D only
3. A, B, D and E only
4. A, B, C and E only

Options :

- 485584154073. 1
- 485584154074. 2
- 485584154075. 3
- 485584154076. 4

Question Number : 694 Question Id : 48558438519 Question Type : MCQ Option Shuffling : No Is Question Mandatory : No Calculator : None Response Time : N.A Think Time : N.A Minimum Instruction Time : 0

Correct Marks : 5 Wrong Marks : 1

Question Key Details :

Key	Value
Comprehension	MCQ

खाद्य प्रसंस्करण और प्रौद्योगिकी में विशेषज्ञता अर्जित करने के बाद पेशेवर जीवन में कौन सी संभावनाएं हैं ?

- A. उत्पादन प्रबंधक
- B. शिक्षण और अनुसन्धान
- C. दिवस देखभाल केंद्र
- D. गुणवत्ता आश्वासन
- E. संवेदिक मूल्यांकन

1. केवल A, C, D और E
2. केवल A, B, C और D
3. केवल A, B, D और E
4. केवल A, B, C और E

Options :

- 485584154073. 1
- 485584154074. 2
- 485584154075. 3
- 485584154076. 4

Question Number : 695 Question Id : 48558438520 Question Type : MCQ Option Shuffling : No Is Question Mandatory : No Calculator : None Response Time : N.A Think Time : N.A Minimum Instruction Time : 0

Correct Marks : 5 Wrong Marks : 1

Question Key Details :

Key	Value
Comprehension	MCQ

Match List I with List II

LIST I		LIST II	
Nutritional problems		Symptoms/ Characteristics	
A.	Iron deficiency anaemia	I.	Hidden hunger
B.	Energy deficiency	II.	Enlarged thyroid
C.	Iodine deficiency	III.	Paleeness of conjunctiva of eyes
D.	Micronutrient deficiency	IV.	Visible wasting, hair loss

Choose the correct answer from the options given below:

1. A-III, B-IV, C-II, D-I
2. A-IV, B-III, C-I, D-II
3. A-IV, B-III, C-II, D-I
4. A-I, B-IV, C-III, D-II

Options :

485584154077. 1
485584154078. 2
485584154079. 3
485584154080. 4

Question Number : 695 Question Id : 48558438520 Question Type : MCQ Option Shuffling : No Is Question Mandatory : No Calculator : None Response Time : N.A Think Time : N.A Minimum Instruction Time : 0

Correct Marks : 5 Wrong Marks : 1

Question Key Details :

Key	Value
Comprehension	MCQ

सूची I का सूची II से मिलान कीजिए

सूची I (पोषण संबंधी समस्या)		सूची II लक्षण/ विशिष्टताएं	
A.	तीह की कमी से रक्ताल्पता (एनीमिया)	I.	छिपी हुई भूख
B.	ऊर्जा की कमी	II.	बढ़ा हुआ थायरॉयड
C.	आयोडीन की कमी	III.	आंखों के नेत्ररुधिरमाला
D.	सूक्ष्मपोषक की कमी	IV.	क्षय रोग, बालों का गिरना

निम्नलिखित विकल्पों में से सही उत्तर का चयन कीजिए :

1. A-III, B-IV, C-II, D-I
2. A-IV, B-III, C-I, D-II
3. A-IV, B-III, C-II, D-I
4. A-I, B-IV, C-III, D-II

Options :

485584154077. 1
485584154078. 2
485584154079. 3
485584154080. 4

Question Number : 696 Question Id : 48558438521 Question Type : MCQ Option Shuffling : No Is Question Mandatory : No Calculator : None Response Time : N.A Think Time : N.A Minimum Instruction Time : 0

Correct Marks : 5 Wrong Marks : 1

Question Key Details :

Key	Value

Arrange the steps to be followed by a public nutrition professional to promote good nutrition and /or prevent nutritional problems in correct sequence.

- A. Identify the problem and its magnitude
- B. Evaluate impact of action
- C. Understand how and why the problem occurred
- D. Plan strategies and action to implement them

1. D, C, B, A
2. A, C, D, B
3. D, B, C, A
4. A, B, D, C

Options :

- 485584154081. 1
- 485584154082. 2
- 485584154083. 3
- 485584154084. 4

Question Number : 696 Question Id : 48558438521 Question Type : MCQ Option Shuffling : No Is Question Mandatory : No Calculator : None Response Time : N.A Think Time : N.A Minimum Instruction Time : 0

Correct Marks : 5 Wrong Marks : 1

Question Key Details :

Key	Value
Comprehension	MCQ

अच्छे पोषण और/ या पोषण समस्याओं को रोकने के लिए एक जन पोषण पेशेवर द्वारा अपनाए जाने वाले कदमों को उचित क्रम में व्यवस्थित कीजिए :

- A. समस्या और उसके स्तर की पहचान करना
- B. कार्रवाई के प्रभाव का मूल्यांकन
- C. समझना कि क्यों और कैसे हुयी समस्या
- D. रणनीति बनाना और उसे लागू करने की कार्रवाई तैयार करना

1. केवल D, C, B और A
2. केवल A, C, D और B
3. केवल D, B, C और A
4. केवल A, B, D और C

Options :

- 485584154081. 1
- 485584154082. 2
- 485584154083. 3
- 485584154084. 4

Question Number : 697 Question Id : 48558438522 Question Type : MCQ Option Shuffling : No Is Question Mandatory : No Calculator : None Response Time : N.A Think Time : N.A Minimum Instruction Time : 0

Correct Marks : 5 Wrong Marks : 1

Question Key Details :

Key	Value
Comprehension	MCQ

_____ , a psychologist had outlined the great need that children have for a concerned, caring and knowledgeable adult.

1. Piaget
2. Bandura
3. Freud
4. Vygotsky

Options :

485584154085. 1
485584154086. 2
485584154087. 3
485584154088. 4

Question Number : 697 Question Id : 48558438522 Question Type : MCQ Option Shuffling : No Is Question Mandatory : No Calculator : None Response Time : N.A Think Time : N.A Minimum Instruction Time : 0

Correct Marks : 5 Wrong Marks : 1

Question Key Details :

Key	Value
Comprehension	MCQ

_____ , जो एक मनोवैज्ञानिक थे, ने रेखांकित किया कि बच्चों को एक संवेदनशील, जिम्मेदार और अनुभवी वयस्क की आवश्यकता होती है।

1. पियाजे
2. बान्डूरा
3. फ्रॉयड
4. वयगोत्स्की

Options :

485584154085. 1
485584154086. 2
485584154087. 3
485584154088. 4

Question Number : 698 Question Id : 48558438523 Question Type : MCQ Option Shuffling : No Is Question Mandatory : No Calculator : None Response Time : N.A Think Time : N.A Minimum Instruction Time : 0

Correct Marks : 5 Wrong Marks : 1

Question Key Details :

Key	Value
Comprehension	MCQ

Health nutrition and hygiene education to mother, non formal pre-school education to children aged 3-6 years, supplementary feeding for all children below 6 years is the major objective of which of the following programme ?

1. ICDS
2. SOS Children's Villages
3. NSS
4. Observation Homes

Options :

485584154089. 1

485584154090. 2
485584154091. 3
485584154092. 4

Question Number : 698 Question Id : 48558438523 Question Type : MCQ Option Shuffling : No Is Question Mandatory : No Calculator : None
Response Time : N.A Think Time : N.A Minimum Instruction Time : 0

Correct Marks : 5 Wrong Marks : 1

Question Key Details :

Key	Value
Comprehension	MCQ

माँ के लिए स्वास्थ्य पोषण और स्वच्छता शिक्षा, 3-6 आयु वर्ग के बच्चों के लिए अनौपचारिक पूर्व स्कूली शिक्षा, 6 वर्ष से कम उम्र के सभी बच्चों के लिए पूरक आहार निम्नलिखित में से किस कार्यक्रम का प्रमुख उद्देश्य है ?

1. आई सी डी एस
2. एसओएस बच्चों के गाँव
3. एन एस एस
4. प्रेक्षण गृह

Options :

485584154089. 1
485584154090. 2
485584154091. 3
485584154092. 4

Question Number : 699 Question Id : 48558438524 Question Type : MCQ Option Shuffling : No Is Question Mandatory : No Calculator : None
Response Time : N.A Think Time : N.A Minimum Instruction Time : 0

Correct Marks : 5 Wrong Marks : 1

Question Key Details :

Key	Value
Comprehension	MCQ

What is the age group of beneficiaries under NOAPS (National Old Age Pension Scheme)?

1. 50 years
2. Below 60 years
3. 62 years
4. Above 65 years

Options :

485584154093. 1
485584154094. 2
485584154095. 3
485584154096. 4

Question Number : 699 Question Id : 48558438524 Question Type : MCQ Option Shuffling : No Is Question Mandatory : No Calculator : None
Response Time : N.A Think Time : N.A Minimum Instruction Time : 0

Correct Marks : 5 Wrong Marks : 1

Question Key Details :

Key	Value
Comprehension	MCQ

एन ओ ए पी एस (राष्ट्रीय वृद्धा पेंशन योजना) के अंतर्गत लाभार्थियों की आयु वर्ग क्या है ?

1. 50 वर्ष
2. 60 वर्ष से कम
3. 62 वर्ष
4. 65 वर्ष से ऊपर

Options :

485584154093. 1
485584154094. 2
485584154095. 3
485584154096. 4

Question Number : 700 Question Id : 48558438525 Question Type : MCQ Option Shuffling : No Is Question Mandatory : No Calculator : None Response Time : N.A Think Time : N.A Minimum Instruction Time : 0

Correct Marks : 5 Wrong Marks : 1

Question Key Details :

Key	Value
Comprehension	MCQ

Placement of children with disability in mainstream school is referred to as _____.

1. Inclusive education
2. Holistic education
3. Integrated education
4. Exclusive education

Options :

485584154097. 1
485584154098. 2
485584154099. 3
485584154100. 4

Question Number : 700 Question Id : 48558438525 Question Type : MCQ Option Shuffling : No Is Question Mandatory : No Calculator : None Response Time : N.A Think Time : N.A Minimum Instruction Time : 0

Correct Marks : 5 Wrong Marks : 1

Question Key Details :

Key	Value
Comprehension	MCQ

ठिकलांग बच्चों को मुख्यधारा के विद्यालय में लाए जाने को प्रायः _____ कहा जाता है।

1. समावेशी शिक्षा
2. समग्र शिक्षा
3. समेकित शिक्षा
4. अनन्य शिक्षा

Options :

485584154097. 1
485584154098. 2
485584154099. 3
485584154100. 4

Question Number : 701 Question Id : 48558438526 Question Type : MCQ Option Shuffling : No Is Question Mandatory : No Calculator : None
Response Time : N.A Think Time : N.A Minimum Instruction Time : 0

Correct Marks : 5 Wrong Marks : 1

Question Key Details :

Key	Value
Comprehension	MCQ

Which of the following youth programme provides opportunities to students (ho have completed their first degree) to involve themselves, on a whole-time basis for one or two years in programmes of national development mainly through Nehru Yuva Kendras ?

1. the National Service Scheme (NSS)
2. the National Service Volunteer Scheme
3. Scouts and Guides
4. Promotion of National Integration

Options :

485584154101. 1
485584154102. 2
485584154103. 3
485584154104. 4

Question Number : 701 Question Id : 48558438526 Question Type : MCQ Option Shuffling : No Is Question Mandatory : No Calculator : None
Response Time : N.A Think Time : N.A Minimum Instruction Time : 0

Correct Marks : 5 Wrong Marks : 1

Question Key Details :

Key	Value
Comprehension	MCQ

निम्नलिखित में से कौन सा युवा कार्यक्रम छात्रों (जो अपनी पहली डिग्री पूरी कर चुके हैं) को पूर्णकालिक रूप से विकास परियोजनाओं में एक से दो वर्ष के लिए नेहरू युवा केन्द्रों के माध्यम से जुड़ने का अवसर देता है?

1. राष्ट्रीय सेवा योजना (NSS)
2. राष्ट्रीय सेवा स्वैच्छिक कार्यक्रम
3. स्काउट एंड गाइड्स
4. राष्ट्रीय एकीकरण का प्रचार

Options :

485584154101. 1
485584154102. 2
485584154103. 3
485584154104. 4

Question Number : 702 Question Id : 48558438527 Question Type : MCQ Option Shuffling : No Is Question Mandatory : No Calculator : None
Response Time : N.A Think Time : N.A Minimum Instruction Time : 0

Correct Marks : 5 Wrong Marks : 1

Question Key Details :

Key	Value
Comprehension	MCQ

An institutional setting that is particularly designed for the care of infants and young children in the absence of home care is referred as _____

1. Observation Homes
2. Creche
3. Pre- school
4. Montessori schools

Options :

485584154105. 1
485584154106. 2
485584154107. 3
485584154108. 4

Question Number : 702 Question Id : 48558438527 Question Type : MCQ Option Shuffling : No Is Question Mandatory : No Calculator : None Response Time : N.A Think Time : N.A Minimum Instruction Time : 0

Correct Marks : 5 Wrong Marks : 1

Question Key Details :

Key	Value
Comprehension	MCQ

गृह देखभाल की अनुपस्थिति में शिशुओं और किशोरों की देखभाल के लिए विशिष्ट रूप से स्थापित एक संस्थागत व्यवस्था को _____ कहा जाता है।

1. देखरेख भवन
2. शिशु सदन (क्रेच)
3. पूर्व-स्कूल
4. मोंटेसरी विद्यालय

Options :

485584154105. 1
485584154106. 2
485584154107. 3
485584154108. 4

Question Number : 703 Question Id : 48558438528 Question Type : MCQ Option Shuffling : No Is Question Mandatory : No Calculator : None Response Time : N.A Think Time : N.A Minimum Instruction Time : 0

Correct Marks : 5 Wrong Marks : 1

Question Key Details :

Key	Value
Comprehension	MCQ

Which of the following is NOT an example of commercial food service establishment ?

1. Coffee shops
2. Chain catering organisations
3. Mobile catering
4. School food services

Options :

485584154109. 1
485584154110. 2
485584154111. 3

485584154112. 4

Question Number : 703 Question Id : 48558438528 Question Type : MCQ Option Shuffling : No Is Question Mandatory : No Calculator : None
Response Time : N.A Think Time : N.A Minimum Instruction Time : 0

Correct Marks : 5 Wrong Marks : 1

Question Key Details :

Key	Value
Comprehension	MCQ

निम्नलिखित में से कौन-सा व्यावसायिक खाद्य सेवा प्रतिष्ठान का एक उदाहरण नहीं है?

1. कैंपेरी शॉप
2. भूखला खान-पान संगठन
3. चलित (मोबाईल) खान-पान सेवा
4. विद्यालय भोजन सेवाएं

Options :

485584154109. 1
485584154110. 2
485584154111. 3
485584154112. 4

Question Number : 704 Question Id : 48558438529 Question Type : MCQ Option Shuffling : No Is Question Mandatory : No Calculator : None
Response Time : N.A Think Time : N.A Minimum Instruction Time : 0

Correct Marks : 5 Wrong Marks : 1

Question Key Details :

Key	Value
Comprehension	MCQ

Identify the type of children in need of care and protection as per Juvenile Justice (Care and Protection of Children) Act, 2000:

- A. Abused, tortured or exploited for purpose of sexual abuse
- B. Victims of armed conflict or natural calamity
- C. Found guilty in terms of violation of law i.e rape, murder
- D. Abandoned children
- E. Mentally or physically challenged

1. A, B, C and D only
2. A, B, D and E only
3. B, C, D and E only
4. A, B, C and E only

Options :

485584154113. 1
485584154114. 2
485584154115. 3
485584154116. 4

Question Number : 704 Question Id : 48558438529 Question Type : MCQ Option Shuffling : No Is Question Mandatory : No Calculator : None
Response Time : N.A Think Time : N.A Minimum Instruction Time : 0

Correct Marks : 5 Wrong Marks : 1

Question Key Details :

Key	Value
Comprehension	MCQ

किशोर न्याय (बच्चों की देखभाल और सुरक्षा) अधिनियम ,2000 के अनुसार उन बच्चों की पहचान करें, जिन्हें देखभाल और संरक्षण की आवश्यकता है :

- A. जिन्हें दुर्व्यवहार, प्रताड़ित या यौन अपराध के उद्देश्य से शोषित किया गया हो
- B. सशस्त्र संघर्ष या प्राकृतिक आपदा के शिकार
- C. बलात्कार और हत्या इत्यादि के कानून के उल्लंघन के मामलों में दोषी
- D. परित्यक्त बच्चे
- E. मानसिक और शारीरिक रूप से विकलांग (दिव्यांग)

- 1. केवल A, B, C और D
- 2. केवल A, B, D और E
- 3. केवल B, C, D और E
- 4. केवल A, B, C और E

Options :

- 485584154113. 1
- 485584154114. 2
- 485584154115. 3
- 485584154116. 4

Question Number : 705 Question Id : 48558438530 Question Type : MCQ Option Shuffling : No Is Question Mandatory : No Calculator : None Response Time : N.A Think Time : N.A Minimum Instruction Time : 0

Correct Marks : 5 Wrong Marks : 1

Question Key Details :

Key	Value
Comprehension	MCQ

Match List I with List II

LIST I (Disability)	LIST II (Characteristics)
A. Locomotor Disability	I. Difficulties of posture and speech due to brain damage
B. Intellectual Impairment	II. Disability affecting communication and social interaction
C. Cerebral Palsy	III. Difficulty in movement due to damage of bones, joints and muscles
D. Autism	IV. Limitation in adaptive skills

Choose the correct answer from the options given below:

- 1. A-I, B-II, C-III, D-IV
- 2. A-III, B-IV, C-I, D-II
- 3. A-II, B-III, C-IV, D-I
- 4. A-IV, B-I, C-II, D-III

Options :

- 485584154117. 1
- 485584154118. 2
- 485584154119. 3
- 485584154120. 4

Question Number : 705 Question Id : 48558438530 Question Type : MCQ Option Shuffling : No Is Question Mandatory : No Calculator : None Response Time : N.A Think Time : N.A Minimum Instruction Time : 0

Correct Marks : 5 Wrong Marks : 1

Question Key Details :

Key	Value
Comprehension	MCQ

सूची I का सूची II से मिलान कीजिए

सूची I (लक्षण)		सूची II (विकलांगता)	
A.	मस्तिष्क की क्षति के कारण मुद्रा और बोलने में कठिनाइयाँ	I.	लोकोमोटर अक्षयता
B.	अक्षयता संचार और सामाजिक संपर्क को प्रभावित करती है	II.	बौद्धिक क्षमता
C.	हस्तियाँ, जाड़ा और मासपेशियों की क्षति के कारण चलने-फिरने में कठिनाई	III.	मस्तिष्क पक्षाघात
D.	सीमित अनुकूल कोशक	IV.	स्वतंत्रता

निम्नलिखित विकल्पों में से सही उत्तर का चयन कीजिए :

1. A-I, B-II, C-III, D-IV
2. A-III, B-IV, C-I, D-II
3. A-II, B-III, C-IV, D-I
4. A-IV, B-I, C-II, D-III

Options :

485584154117. 1
485584154118. 2
485584154119. 3
485584154120. 4

Question Number : 706 Question Id : 48558438531 Question Type : MCQ Option Shuffling : No Is Question Mandatory : No Calculator : None Response Time : N.A Think Time : N.A Minimum Instruction Time : 0

Correct Marks : 5 Wrong Marks : 1

Question Key Details :

Key	Value
Comprehension	MCQ

Which of the following scale helps us to judge the equivalent value of any hue?

1. Grey scale
2. Hue scale
3. Blue scale
4. Pantone shade card

Options :

485584154121. 1
485584154122. 2
485584154123. 3
485584154124. 4

Question Number : 706 Question Id : 48558438531 Question Type : MCQ Option Shuffling : No Is Question Mandatory : No Calculator : None Response Time : N.A Think Time : N.A Minimum Instruction Time : 0

Correct Marks : 5 Wrong Marks : 1

Question Key Details :

Key	Value
Comprehension	MCQ

निम्नलिखित में से कौन-सा पैमाना हमें किसी रंग के समतुल्य मूल्य को जाँचने में मदद करता है?

1. घ्रे पैमाना
2. वर्णाभा पैमाना
3. नीला पैमाना
4. पेटोन रोल कार्ड

Options :

485584154121. 1
485584154122. 2
485584154123. 3
485584154124. 4

Question Number : 707 Question Id : 48558438532 Question Type : MCQ Option Shuffling : No Is Question Mandatory : No Calculator : None Response Time : N.A Think Time : N.A Minimum Instruction Time : 0

Correct Marks : 5 Wrong Marks : 1

Question Key Details :

Key	Value
Comprehension	MCQ

The process of problem solving with the purpose of getting zero - defect product is referred to as _____.

1. Quality Assurance
2. Quality Control
3. Quality Management
4. Quality Monitoring

Options :

485584154125. 1
485584154126. 2
485584154127. 3
485584154128. 4

Question Number : 707 Question Id : 48558438532 Question Type : MCQ Option Shuffling : No Is Question Mandatory : No Calculator : None Response Time : N.A Think Time : N.A Minimum Instruction Time : 0

Correct Marks : 5 Wrong Marks : 1

Question Key Details :

Key	Value
Comprehension	MCQ

दोषरहित उत्पाद प्राप्त करने के उद्देश्य से समस्या समाधान की प्रक्रिया को _____ कहा जाता है।

1. गुणवत्ता आश्वासन
2. गुणवत्ता नियंत्रण
3. गुणवत्ता प्रबंधन
4. गुणवत्ता निगरानी

Options :

485584154125. 1
485584154126. 2
485584154127. 3
485584154128. 4

Question Number : 708 Question Id : 48558438533 Question Type : MCQ Option Shuffling : No Is Question Mandatory : No Calculator : None Response Time : N.A Think Time : N.A Minimum Instruction Time : 0

Correct Marks : 5 Wrong Marks : 1

Question Key Details :

Key	Value
Comprehension	MCQ

_____ became the centre of fashion in the early 18th century?

1. France
2. Milan
3. Europe
4. Italy

Options :

485584154129. 1
485584154130. 2
485584154131. 3
485584154132. 4

Question Number : 708 Question Id : 48558438533 Question Type : MCQ Option Shuffling : No Is Question Mandatory : No Calculator : None Response Time : N.A Think Time : N.A Minimum Instruction Time : 0

Correct Marks : 5 Wrong Marks : 1

Question Key Details :

Key	Value
Comprehension	MCQ

_____ 18 वीं शताब्दी में, फैशन का केंद्र बना था।

1. फ्रान्स
2. मिलांन
3. यूरोप
4. इटली

Options :

485584154129. 1
485584154130. 2
485584154131. 3
485584154132. 4

Question Number : 709 Question Id : 48558438534 Question Type : MCQ Option Shuffling : No Is Question Mandatory : No Calculator : None Response Time : N.A Think Time : N.A Minimum Instruction Time : 0

Correct Marks : 5 Wrong Marks : 1

Question Key Details :

Key	Value
Comprehension	MCQ

Ms X is a short, and fat girl and wants to design a dress for herself. Suggest the type of 'lines' which will be most suitable for her to be used in the dress.

1. Vertical lines
2. Large rounded curved lines
3. Horizontal lines
4. Diagonal lines

Options :

485584154133. 1
485584154134. 2
485584154135. 3
485584154136. 4

Question Number : 709 Question Id : 48558438534 Question Type : MCQ Option Shuffling : No Is Question Mandatory : No Calculator : None Response Time : N.A Think Time : N.A Minimum Instruction Time : 0

Correct Marks : 5 Wrong Marks : 1

Question Key Details :

Key	Value
Comprehension	MCQ

श्रीमती X कद में छोटी और तज़नी लड़की है और वह अपने लिए एक ड्रेस डिज़ाइन करना चाहती है। उस प्रकार की रेखाओं का सुझाव दें जो उसके लिए पोशाक में उपयोग किए जाने के लिए सबसे उपर्युक्त हों।

1. लम्बवत रेखाएँ
2. बड़ी गोल घुमावदार रेखाएँ
3. क्षैतिज रेखाएँ
4. विकर्ण रेखाएँ

Options :

485584154133. 1
485584154134. 2
485584154135. 3
485584154136. 4

Question Number : 710 Question Id : 48558438535 Question Type : MCQ Option Shuffling : No Is Question Mandatory : No Calculator : None Response Time : N.A Think Time : N.A Minimum Instruction Time : 0

Correct Marks : 5 Wrong Marks : 1

Question Key Details :

Key	Value
Comprehension	MCQ

Identify the type of washing method used in front-loading machines?

1. Agitation
2. Pulsation
3. Tumbling
4. Combination agitation-pulsation

Options :

485584154137. 1
485584154138. 2
485584154139. 3

485584154140. 4

Question Number : 710 Question Id : 48558438535 Question Type : MCQ Option Shuffling : No Is Question Mandatory : No Calculator : None
Response Time : N.A Think Time : N.A Minimum Instruction Time : 0

Correct Marks : 5 Wrong Marks : 1

Question Key Details :

Key	Value
Comprehension	MCQ

फ्रंट लोडिंग मशीन में प्रयुक्त धुलाई विधि के प्रकार की पहचान कीजिए।

1. आलौड़न
2. स्पंदन
3. लोटन
4. आलौड़न -स्पंदन संयोजन

Options :

485584154137. 1
485584154138. 2
485584154139. 3
485584154140. 4

Question Number : 711 Question Id : 48558438536 Question Type : MCQ Option Shuffling : No Is Question Mandatory : No Calculator : None
Response Time : N.A Think Time : N.A Minimum Instruction Time : 0

Correct Marks : 5 Wrong Marks : 1

Question Key Details :

Key	Value
Comprehension	MCQ

Chanel suit is an example of which of the following concept of fashion industry?

1. Fad
2. Classic
3. Style
4. Trend

Options :

485584154141. 1
485584154142. 2
485584154143. 3
485584154144. 4

Question Number : 711 Question Id : 48558438536 Question Type : MCQ Option Shuffling : No Is Question Mandatory : No Calculator : None
Response Time : N.A Think Time : N.A Minimum Instruction Time : 0

Correct Marks : 5 Wrong Marks : 1

Question Key Details :

Key	Value
Comprehension	MCQ

चेनल सूट निम्नलिखित में से फैशन जगत की किस अवधारणा का एक उदाहरण है :

1. फेड
2. क्लासिक
3. शैली
4. प्रचलन

Options :

485584154141. 1
485584154142. 2
485584154143. 3
485584154144. 4

Question Number : 712 Question Id : 48558438537 Question Type : MCQ Option Shuffling : No Is Question Mandatory : No Calculator : None Response Time : N.A Think Time : N.A Minimum Instruction Time : 0

Correct Marks : 5 Wrong Marks : 1

Question Key Details :

Key	Value
Comprehension	MCQ

In a shirt-pant dress, the proportion of golden mean is represented by the ratio _____.

1. 3:5:8
2. 5:8:13
3. 3:8:11
4. 6:7:13

Options :

485584154145. 1
485584154146. 2
485584154147. 3
485584154148. 4

Question Number : 712 Question Id : 48558438537 Question Type : MCQ Option Shuffling : No Is Question Mandatory : No Calculator : None Response Time : N.A Think Time : N.A Minimum Instruction Time : 0

Correct Marks : 5 Wrong Marks : 1

Question Key Details :

Key	Value
Comprehension	MCQ

एक शर्ट-पैंट परिधान में, गोल्डन मीन के समानुपात के अनुपात को कैसे दर्शाया जाता है :

1. 3:5:8
2. 5:8:13
3. 3:8:11
4. 6:7:13

Options :

485584154145. 1
485584154146. 2
485584154147. 3
485584154148. 4

Question Number : 713 Question Id : 48558438538 Question Type : MCQ Option Shuffling : No Is Question Mandatory : No Calculator : None Response Time : N.A Think Time : N.A Minimum Instruction Time : 0

Correct Marks : 5 Wrong Marks : 1

Question Key Details :

Key	Value
Comprehension	MCQ

Arrange the steps of an automatic washer in the correct sequence.

- A. Washing
- B. Regulation of temperature of water
- C. Water level control
- D. Filling up water
- E. Rinsing and water extraction

1. D,C,B,A,E

2. C,B,A,E,D

3. D,B,A,C,E

4. C,A,E,B,D

Options :

485584154149. 1

485584154150. 2

485584154151. 3

485584154152. 4

Question Number : 713 Question Id : 48558438538 Question Type : MCQ Option Shuffling : No Is Question Mandatory : No Calculator : None Response Time : N.A Think Time : N.A Minimum Instruction Time : 0

Correct Marks : 5 Wrong Marks : 1

Question Key Details :

Key	Value
Comprehension	MCQ

एक स्वचालित धुलाई यंत्र (वाशर) के चरणों की सही क्रम में व्यवस्थित करें

- A. धुलाई
- B. पानी के तापमान का नियमन
- C. जल स्तर नियंत्रण
- D. पानी भरना
- E. प्रक्षालन और पानी निकालना

1. D,C,B,A,E

2. C,B,A,E,D

3. D,B,A,C,E

4. C,A,E,B,D

Options :

485584154149. 1

485584154150. 2

485584154151. 3

485584154152. 4

Question Number : 714 Question Id : 48558438539 Question Type : MCQ Option Shuffling : No Is Question Mandatory : No Calculator : None Response Time : N.A Think Time : N.A Minimum Instruction Time : 0

Correct Marks : 5 Wrong Marks : 1

Question Key Details :

Key	Value
-----	-------

Identify the correct statements with respect to understanding of the principles of design.

- A. A low waist bodice in maternity clothes camouflages fullness of abdomen
- B. Equal proportions make a person look both shorter and wider
- C. Formal balance gives a feeling of stability and formality
- D. Women with small waist can wear a bright and contrasting belt
- E. Silk kurta and salwar will show good harmony with the use of cotton dupatta

1. B, C and D only
2. A, B and C only
3. A, C and D only
4. B, D and E only

Options :

- 485584154153. 1
- 485584154154. 2
- 485584154155. 3
- 485584154156. 4

Question Number : 714 Question Id : 48558438539 Question Type : MCQ Option Shuffling : No Is Question Mandatory : No Calculator : None Response Time : N.A Think Time : N.A Minimum Instruction Time : 0

Correct Marks : 5 Wrong Marks : 1

Question Key Details :

Key	Value
Comprehension	MCQ

डिजाइन के सिद्धांतों को समझने के संदर्भ में उचित कथनों की पहचान कीजिए :

- A. मातृत्व कपड़ों में कम कमर वाली चोली पेट की परिपूर्णता को छिपाती है।
- B. समान अनुपात से व्यक्ति छोटा और चौड़ा दोनों दिखता है।
- C. औपचारिक संतुलन स्थिरता और औपचारिकता की भावना देता है।
- D. छोटी कमर वाली महिलाएं चमकीली और विषम बेल्ट पहन सकती हैं।
- E. एक रेशमी कुर्ता और सलवार सूती दुपट्टे के प्रयोग से अच्छा तालमेल दिखाएगा।

1. केवल B, C और D
2. केवल A, B और C
3. केवल A, C और D
4. केवल B, D और E

Options :

- 485584154153. 1
- 485584154154. 2
- 485584154155. 3
- 485584154156. 4

Question Number : 715 Question Id : 48558438540 Question Type : MCQ Option Shuffling : No Is Question Mandatory : No Calculator : None Response Time : N.A Think Time : N.A Minimum Instruction Time : 0

Correct Marks : 5 Wrong Marks : 1

Question Key Details :

Key	Value
Comprehension	MCQ

Arrange the stages of fashion cycle in the correct order.

- A. Obsolescence
- B. Increase in popularity
- C. Introduction of a style
- D. Decline in popularity
- E. Peak of popularity

1. C,D,E,B,A

2. C,B,E,D,A

3. B,C,E,D,A

4. C,E,B,D,A

Options :

- 485584154157. 1
- 485584154158. 2
- 485584154159. 3
- 485584154160. 4

Question Number : 715 Question Id : 48558438540 Question Type : MCQ Option Shuffling : No Is Question Mandatory : No Calculator : None Response Time : N.A Think Time : N.A Minimum Instruction Time : 0

Correct Marks : 5 Wrong Marks : 1

Question Key Details :

Key	Value
Comprehension	MCQ

फैशन चक्र के चरणों को क्रम में व्यवस्थित करें

- A. अप्रचलन
- B. लोकप्रियता में बढ़ोतरी
- C. नई शैली से परिचित कराना
- D. लोकप्रिया में गिरावट
- E. लोकप्रियता का शिखर

1. C, D, E, B, A

2. C, B, E, D, A

3. B, C, E, D, A

4. C, E, B, D, A

Options :

- 485584154157. 1
- 485584154158. 2
- 485584154159. 3
- 485584154160. 4

Question Number : 716 Question Id : 48558438541 Question Type : MCQ Option Shuffling : No Is Question Mandatory : No Calculator : None Response Time : N.A Think Time : N.A Minimum Instruction Time : 0

Correct Marks : 5 Wrong Marks : 1

Question Key Details :

Key	Value
Comprehension	MCQ

Arrange the functioning of laundry in the hospitals in the correct sequence-

- A. Unloading dirty linen and sorting
- B. Collection from emergency, OT and OPD
- C. Washing, drying, ironing, folding
- D. Packing
- E. Distribution

- 1. B,C,D,A,E
- 2. B,C,A,D,E
- 3. B,A,C,D,E
- 4. B,A,E,C,D

Options :

- 485584154161. 1
- 485584154162. 2
- 485584154163. 3
- 485584154164. 4

Question Number : 716 Question Id : 48558438541 Question Type : MCQ Option Shuffling : No Is Question Mandatory : No Calculator : None Response Time : N.A Think Time : N.A Minimum Instruction Time : 0

Correct Marks : 5 Wrong Marks : 1

Question Key Details :

Key	Value
Comprehension	MCQ

अस्पताल में कपड़े धोने की प्रक्रिया को सही क्रम में व्यवस्थित करें

- A. गंदे कपड़ों को उतारना और छँटाई करना
- B. ओटी, ओपीडी और आपातकालीन सेवाओं से कपड़ों का एकत्रीकरण
- C. धुलना सुखाना, इस्तरी, तह करना
- D. पैकिंग
- E. वितरण

- 1. B,C,D,A,E
- 2. B,C,A,D,E
- 3. B,A,C,D,E
- 4. B,A,E,C,D

Options :

- 485584154161. 1
- 485584154162. 2
- 485584154163. 3
- 485584154164. 4

Question Number : 717 Question Id : 48558438542 Question Type : MCQ Option Shuffling : No Is Question Mandatory : No Calculator : None Response Time : N.A Think Time : N.A Minimum Instruction Time : 0

Correct Marks : 5 Wrong Marks : 1

Question Key Details :

Key	Value
Comprehension	MCQ

Match List I with List II

LIST I (Terminology)		LIST II (Description)	
A.	Classics	I.	Design which depends on form and not superimposed ornamentation.
B.	Structural design	II.	Part of the design which has been superimposed on the basic structure.
C.	Fads	III.	Styles that never become completely obsolete.
D.	Applied design	IV.	Short lived fashions that can come and go in a single season.

Choose the correct answer from the options given below;

1. A-IV, B-II, C-III, D-I
2. A-III, B-IV, C-I, D-II
3. A-II, B-IV, C-III, D-I
4. A-III, B-I, C-IV, D-II

Options :

485584154165. 1
485584154166. 2
485584154167. 3
485584154168. 4

Question Number : 717 Question Id : 48558438542 Question Type : MCQ Option Shuffling : No Is Question Mandatory : No Calculator : None Response Time : N.A Think Time : N.A Minimum Instruction Time : 0

Correct Marks : 5 Wrong Marks : 1

Question Key Details :

Key	Value
Comprehension	MCQ

सूची I का सूची II से मिलान कीजिए

सूची I (शब्दावली)		सूची II (विवरण)	
A.	उत्कृष्ट	I.	डिजाइन जो रूप पर निर्भर करता है न कि आरोपित अलंकरण पर
B.	संरचनात्मक डिजाइन	II.	डिजाइन का वह भाग जो मूल संरचना पर आरोपित किया गया है
C.	फैड	III.	शैलियाँ जो कभी पूरी तरह से अप्रचलित नहीं होती हैं
D.	प्रयुक्त डिजाइन	IV.	अल्पकालिक फैशन जो एक ही मौसम में आ और जा सकते हैं

निम्नलिखित विकल्पों में से सही उत्तर का चयन कीजिए :

1. A-IV, B-II, C-III, D-I
2. A-III, B-IV, C-I, D-II
3. A-II, B-IV, C-III, D-I
4. A-III, B-I, C-IV, D-II

Options :

485584154165. 1
485584154166. 2
485584154167. 3

485584154168. 4

Question Number : 718 Question Id : 48558438543 Question Type : MCQ Option Shuffling : No Is Question Mandatory : No Calculator : None
Response Time : N.A Think Time : N.A Minimum Instruction Time : 0

Correct Marks : 5 Wrong Marks : 1

Question Key Details :

Key	Value
Comprehension	MCQ

Name the place / organisation where consumers can discuss consumer products / services and their advantages and disadvantages.

1. Consumer Welfare Organisation
2. Consumer Protection Agency
3. Consumer Forum
4. National Consumer Welfare Forum

Options :

485584154169. 1
485584154170. 2
485584154171. 3
485584154172. 4

Question Number : 718 Question Id : 48558438543 Question Type : MCQ Option Shuffling : No Is Question Mandatory : No Calculator : None
Response Time : N.A Think Time : N.A Minimum Instruction Time : 0

Correct Marks : 5 Wrong Marks : 1

Question Key Details :

Key	Value
Comprehension	MCQ

उस स्थान/संगठन का नाम बताइये जहाँ उपभोक्ता उत्पादों/सेवाओं और उनके लाभ और हानि की चर्चा कर सकते हैं।

1. उपभोक्ता कल्याण संगठन
2. उपभोक्ता संरक्षण एजेंसी
3. उपभोक्ता फोरम
4. राष्ट्रीय उपभोक्ता कल्याण फोरम

Options :

485584154169. 1
485584154170. 2
485584154171. 3
485584154172. 4

Question Number : 719 Question Id : 48558438544 Question Type : MCQ Option Shuffling : No Is Question Mandatory : No Calculator : None
Response Time : N.A Think Time : N.A Minimum Instruction Time : 0

Correct Marks : 5 Wrong Marks : 1

Question Key Details :

Key	Value
Comprehension	MCQ

Which of the following establishment provides services like a hotel and provides parking facility near the room or a room door that opens on to the parking lot ?

1. Lodge
2. Resort
3. Motel
4. Furnished apartments

Options :

- 485584154173. 1
- 485584154174. 2
- 485584154175. 3
- 485584154176. 4

Question Number : 719 Question Id : 48558438544 Question Type : MCQ Option Shuffling : No Is Question Mandatory : No Calculator : None Response Time : N.A Think Time : N.A Minimum Instruction Time : 0

Correct Marks : 5 Wrong Marks : 1

Question Key Details :

Key	Value
Comprehension	MCQ

निम्नलिखित में से कौन-सा प्रतिष्ठान होटल जैसी सेवाएं प्रदान करता है और पार्किंग स्थल पर खुलने वाले कमरे या कमरे के दरवाजे के पास पार्किंग की सुविधा प्रदान करता है?

1. लॉज
2. रिसॉर्ट
3. मोटेल
4. सुसज्जित अपार्टमेंट

Options :

- 485584154173. 1
- 485584154174. 2
- 485584154175. 3
- 485584154176. 4

Question Number : 720 Question Id : 48558438545 Question Type : MCQ Option Shuffling : No Is Question Mandatory : No Calculator : None Response Time : N.A Think Time : N.A Minimum Instruction Time : 0

Correct Marks : 5 Wrong Marks : 1

Question Key Details :

Key	Value
Comprehension	MCQ

When was the Consumer Protection Act approved?

1. 1986
2. 1956
3. 2016
4. 1988

Options :

- 485584154177. 1
- 485584154178. 2
- 485584154179. 3

485584154180. 4

Question Number : 720 Question Id : 48558438545 Question Type : MCQ Option Shuffling : No Is Question Mandatory : No Calculator : None
Response Time : N.A Think Time : N.A Minimum Instruction Time : 0

Correct Marks : 5 Wrong Marks : 1

Question Key Details :

Key	Value
Comprehension	MCQ

उपभोक्ता संरक्षण अधिनियम कब पारित हुआ था?

1. 1986
2. 1956
3. 2016
4. 1988

Options :

485584154177. 1
485584154178. 2
485584154179. 3
485584154180. 4

Question Number : 721 Question Id : 48558438546 Question Type : MCQ Option Shuffling : No Is Question Mandatory : No Calculator : None
Response Time : N.A Think Time : N.A Minimum Instruction Time : 0

Correct Marks : 5 Wrong Marks : 1

Question Key Details :

Key	Value
Comprehension	MCQ

Which of the following housekeeping department personnel is responsible for preparing duty schedule, checking cleanliness and functioning of the workers?

1. Executive housekeeper
2. Assistant housekeeper
3. Floor supervisor
4. Desk - control supervisor

Options :

485584154181. 1
485584154182. 2
485584154183. 3
485584154184. 4

Question Number : 721 Question Id : 48558438546 Question Type : MCQ Option Shuffling : No Is Question Mandatory : No Calculator : None
Response Time : N.A Think Time : N.A Minimum Instruction Time : 0

Correct Marks : 5 Wrong Marks : 1

Question Key Details :

Key	Value
Comprehension	MCQ

निम्नलिखित में से कौन-सा गृहप्रबंधक विभाग का कर्मचारी कामगारों की सफाई और कार्यप्रणाली, साफ-सफाई की जांच और कार्य अनुसूची तैयार करने का जिम्मेदार है?

1. अधिशासी गृहप्रबंधक
2. सहायक गृहप्रबंधक
3. तल पर्यवेक्षक
4. स्वागती नियंत्रक पर्यवेक्षक

Options :

485584154181. 1
485584154182. 2
485584154183. 3
485584154184. 4

Question Number : 722 Question Id : 48558438547 Question Type : MCQ Option Shuffling : No Is Question Mandatory : No Calculator : None Response Time : N.A Think Time : N.A Minimum Instruction Time : 0

Correct Marks : 5 Wrong Marks : 1

Question Key Details :

Key	Value
Comprehension	MCQ

The term _____ is being used globally to refer to the activities of HR professionals to attract, develop and retain employees.

1. Production management
2. Talent Mnnagement
3. Marketing management
4. Project management

Options :

485584154185. 1
485584154186. 2
485584154187. 3
485584154188. 4

Question Number : 722 Question Id : 48558438547 Question Type : MCQ Option Shuffling : No Is Question Mandatory : No Calculator : None Response Time : N.A Think Time : N.A Minimum Instruction Time : 0

Correct Marks : 5 Wrong Marks : 1

Question Key Details :

Key	Value
Comprehension	MCQ

कर्मचारियों को आकर्षित करने, और बनाए रखने के लिए मानव संसाधन पेशेवरों की गतिविधियों को संदर्भित करने के लिए _____ शब्द का उपयोग वैश्विक स्तर पर किया जा रहा है।

1. उत्पादन प्रबंधन
2. कौशल प्रबंधन
3. विपणन प्रबंधन
4. परियोजना प्रबंधन

Options :

485584154185. 1

485584154186. 2
485584154187. 3
485584154188. 4

Question Number : 723 Question Id : 48558438548 Question Type : MCQ Option Shuffling : No Is Question Mandatory : No Calculator : None
Response Time : N.A Think Time : N.A Minimum Instruction Time : 0

Correct Marks : 5 Wrong Marks : 1

Question Key Details :

Key	Value
Comprehension	MCQ

Who amongst the following is responsible for managing overall functioning of a restaurant ?

1. Restaurant manager
2. Housekeeper
3. Attendant
4. Desk control supervisor

Options :

485584154189. 1
485584154190. 2
485584154191. 3
485584154192. 4

Question Number : 723 Question Id : 48558438548 Question Type : MCQ Option Shuffling : No Is Question Mandatory : No Calculator : None
Response Time : N.A Think Time : N.A Minimum Instruction Time : 0

Correct Marks : 5 Wrong Marks : 1

Question Key Details :

Key	Value
Comprehension	MCQ

रेस्तरां के समग्र कामकाज के प्रबंधन के लिए निम्नलिखित में से कौन जिम्मेदार है ?

1. रेस्तरां प्रबंधक
2. गृह प्रबंधक
3. सेवक
4. स्वागती नियंत्रक पर्यवेक्षक

Options :

485584154189. 1
485584154190. 2
485584154191. 3
485584154192. 4

Question Number : 724 Question Id : 48558438549 Question Type : MCQ Option Shuffling : No Is Question Mandatory : No Calculator : None
Response Time : N.A Think Time : N.A Minimum Instruction Time : 0

Correct Marks : 5 Wrong Marks : 1

Question Key Details :

Key	Value
Comprehension	MCQ

Arrange the stages of Guest Cycle in the appropriate sequence:

- A. Occupancy
- B. Pre - arrival
- C. Arrival
- D. Departure

1. C, A, B and D only
2. A, B, C and D only
3. B, C, A and D only
4. A, C, B and D only

Options :

- 485584154193. 1
- 485584154194. 2
- 485584154195. 3
- 485584154196. 4

Question Number : 724 Question Id : 48558438549 Question Type : MCQ Option Shuffling : No Is Question Mandatory : No Calculator : None Response Time : N.A Think Time : N.A Minimum Instruction Time : 0

Correct Marks : 5 Wrong Marks : 1

Question Key Details :

Key	Value
Comprehension	MCQ

अतिथि चक्र के चरणों को उपयुक्त अनुक्रम में व्यवस्थित करें :

- A. अधिभोग
- B. पूर्व-आगमन
- C. आगमन
- D. प्रस्थान

1. केवल C, A, B और D
2. केवल A, B, C और D
3. केवल B, C, A और D
4. केवल A, C, B और D

Options :

- 485584154193. 1
- 485584154194. 2
- 485584154195. 3
- 485584154196. 4

Question Number : 725 Question Id : 48558438550 Question Type : MCQ Option Shuffling : No Is Question Mandatory : No Calculator : None Response Time : N.A Think Time : N.A Minimum Instruction Time : 0

Correct Marks : 5 Wrong Marks : 1

Question Key Details :

Key	Value
Comprehension	MCQ

Match List I with List II

LIST I (Standardization Marks)	LIST II (Examples)
A. ISI	I. Ketchups
B. Ecomark	II. Pressure cookers
C. Hallmark	III. Gold and silver articles
D. FPO	IV. Eco-friendly cosmetics

Choose the correct answer from the options given below:

1. A-II, B-IV, C-III, D-I
2. A-IV, B-III, C-II, D-I
3. A-II, B-III, C-IV, D-I
4. A-IV, B-I, C-III, D-II

Options :

485584154197. 1
485584154198. 2
485584154199. 3
485584154200. 4

Question Number : 725 Question Id : 48558438550 Question Type : MCQ Option Shuffling : No Is Question Mandatory : No Calculator : None
Response Time : N.A Think Time : N.A Minimum Instruction Time : 0

Correct Marks : 5 Wrong Marks : 1

Question Key Details :

Key	Value
Comprehension	MCQ

सूची I का सूची II से मिलान कीजिए

सूची I मानकीकरण चिन्ह/निशान	सूची II उदाहरण
A. आई एस आई	I. केचप
B. इकोमार्क	II. प्रेशर कुकर
C. हॉलमार्क	III. सोने तथा चाँदी के सामग्री
D. एफ पी ओ	IV. पर्यावरण अनुकूल सौन्दर्य प्रसाधन

निम्नलिखित विकल्पों में से सही उत्तर का चयन कीजिए :

1. A-II, B-IV, C-III, D-I
2. A-IV, B-III, C-II, D-I
3. A-II, B-III, C-IV, D-I
4. A-IV, B-I, C-III, D-II

Options :

485584154197. 1
485584154198. 2
485584154199. 3
485584154200. 4

Sub-Section Number :

Sub-Section Id :

Question Shuffling Allowed :

Is Section Default? :

2

4855842941

No

null

Question Number : 726 Question Id : 48558438551 Question Type : MCQ Option Shuffling : No Is Question Mandatory : No Calculator : None
Response Time : N.A Think Time : N.A Minimum Instruction Time : 0

Correct Marks : 5 Wrong Marks : 1

Question Key Details :

Key	Value
Comprehension	Compl

Read the passage carefully and answer the questions :

There are four types of food service systems-

Conventional food service system : Food is prepared in a kitchen on the premises where the food is to be served. E.g in cafeterias, restaurants, dining areas of hostels or it may be carried on trays and served to patients in hospitals. This system is more adaptable to individual preferences and there is a greater flexibility in meal planning, and distribution costs are minimal.

Commissary food service system : Food is prepared centrally at one place but is distributed to several remote areas for final preparation and service. E.g - there are chains of outlets like Cafe Coffee Day, Barista etc. In this system, all ingredients can be purchased in bulk, no need for separate equipment and personnel to cook the food in each unit, thus, ensuring product quality and cost - effectiveness.

Ready - prepared food service system : Foods are prepared well in advance before the serving time and are frozen until used.(E.g, frozen parathias, samosas, French fries etc). There is a need for special equipment for freezing and storing the frozen food.

Assembly service system : Fully prepared foods are purchased from manufacturers and only finishing processes like seasoning ,thawing, reheating is done at the place of service. These operations require minimal cooking at the point of service (e.g panipuri or bhelpuri) but the number of items prepared may not be large. Management in food service includes management of human and non - human resources generally known as 6M's - money, material, man (human resource), machines, minutes (time) and markets.

Management in food service includes several functions - planning, organising, delegating, motivating, directing, reporting, budgeting and coordinating the entire process.

Frozen french fries are prepared in which of the following type of food service systems

1. Assembly - service system
2. Commissary food service system
3. Ready - prepared food service system
4. Conventional food service system

Options :

485584154201. 1
485584154202. 2
485584154203. 3
485584154204. 4

Question Number : 726 Question Id : 48558438551 Question Type : MCQ Option Shuffling : No Is Question Mandatory : No Calculator : None
Response Time : N.A Think Time : N.A Minimum Instruction Time : 0

Correct Marks : 5 Wrong Marks : 1

Question Key Details :

Key	Value
Comprehension	Compl

नीचे दिये गये गद्यांश को पढ़ें और नीचे दिए गए के उत्तर दीजिए

भोजन सेवा प्रणाली के चार प्रकार होते हैं -

परंपरागत भोजन प्रणालियाँ : भोजन उसी परिसर के रसोईघर में तैयार किया जाता है, जहाँ परोसा जाना है जैसे- कैफेटेरिया, रेस्तरां, छात्रवासों के भोजन कक्षों या यह अस्पतालों में मरीजों को ट्रेन में सजाकर परोसा जा सकता है। यह प्रणाली व्यक्तिगत पसंद के लिए अधिक अनुकूल है और व्यंजन सूची बनाने में बहुत लचीलापन रहता है। इसके अतिरिक्त वितरण (भोजन को पहुँचाने) की लागत भी बहुत कम रहती है।

कमिसरी भोजन (रसद विभाग) सेवा प्रणाली : इस पद्धति में, भोजन एक केंद्र पर तैयार किया जाता है परंतु अंतिम निर्मित और परोसने के लिए ओए दूरी पर स्थित कुछ क्षेत्रों में वितरित कर दिया जाता है जैसे- बहुत से आउटलेट जैसे कैफे, कॉफी ठे, बरिस्ता इत्यादि। इस प्रणाली में, सभी संघटक सामग्री अधिक मात्र में खरीद रख सकते हैं, हर इकाई के लिए खाद्य पदार्थ बनाने के लिए अलग उपकरण और व्यक्तियों की आवश्यकता नहीं होती है सभी इकाईयों के लिए उत्पाद की गुणवत्ता की एकरूपता सुनिश्चित की जा सकती है और यह लागत प्रभावी भी है।

तैयार भोजन संबंधी सेवा प्रणाली : खाद्य पदार्थों की परोसने के समय से बहुत पहले बनाकर तैयार कर लिया जाता है और जब तक वे उपयोग में नहीं आते उन्हें हिमशीतित रखा जाता है। जैसे- हिमशीतित हुए परांठे, समोसे, (फ्रेंच फिजर्स फ्राइज़ इत्यादि) खाद्य पदार्थ के हिमीकरण (फ्रीजर्स) और भंडारण के लिए विशिष्ट उपकरणों की आवश्यकता होती है।

संयोजक (असेंबली) सेवा प्रणाली : इसमें पूर्णरूप से तैयार खाद्य पदार्थ विनिमीता से खरीद लिए जाते हैं और परोसे जाने वाले स्थान पर परिष्करण (सीजनिंग), पिघलाना, गलाना, पुनः गरम करना जैसी अंतिम प्रक्रियाएँ की जाती हैं। इन कार्यों में परोसने के स्थान पर कम से कम पाक क्रिया करने की आवश्यकता होती है, (उदाहरण पानी पूरी या भेल पूरी) लेकिन यह तैयार की जाने वाली वस्तुओं की संख्या बहुत अधिक नहीं होती है। भोजन सेवा में प्रबंधन में मानव का प्रबंधन और गैर मानव संसाधन को सम्मिलित किया जाता है इसको सामान्यतः 6 M धन, सामग्री, मनुष्य, मशीनें, मिनट (समय) और बाजार के रूप में जानते हैं।

भोजन सेवा के प्रबंधन में कई कार्य सम्मिलित है- नियोजन, आयोजन, प्रतिनिधित्व, निर्देशन, प्रेरित करना, बजट बनाना और संपूर्ण प्रक्रम का समन्वय करना शामिल है।

निम्नलिखित में से किस भोजन सेवा प्रणालियों के प्रकार के अंतर्गत हिमशीतित फ्रेंच फ्राइज़ तैयार की जाती हैं?

1. संयोजक (असेंबली) सेवा प्रणाली
2. कमिसरी भोजन (रसद विभाग) सेवा प्रणाली
3. तैयार भोजन संबंधी सेवा प्रणाली
4. परंपरागत भोजन प्रणालियाँ

Options :

485584154201. 1

485584154202. 2

485584154203. 3

485584154204. 4

Question Number : 727 Question Id : 48558438552 Question Type : MCQ Option Shuffling : No Is Question Mandatory : No Calculator : None Response Time : N.A Think Time : N.A Minimum Instruction Time : 0

Correct Marks : 5 Wrong Marks : 1

Question Key Details :

Key	Value
Comprehension	Comp1

Read the passage carefully and answer the questions :

There are four types of food service systems-

Conventional food service system : Food is prepared in a kitchen on the premises where the food is to be served. E.g in cafeterias, restaurants, dining areas of hostels or it may be carried on trays and served to patients in hospitals. This system is more adaptable to individual preferences and there is a greater flexibility in meal planning, and distribution costs are minimal.

Commissary food service system : Food is prepared centrally at one place but is distributed to several remote areas for final preparation and service. E.g - there are chains of outlets like Cafe Coffee Day, Barista etc. In this system, all ingredients can be purchased in bulk, no need for separate equipment and personnel to cook the food in each unit, thus, ensuring product quality and cost - effectiveness.

Ready - prepared food service system : Foods are prepared well in advance before the serving time and are frozen until used.(E.g, frozen parathas, samosas, French fries etc). There is a need for special equipment for freezing and storing the frozen food.

Assembly service system : Fully prepared foods are purchased from manufacturers and only finishing processes like seasoning ,thawing, reheating is done at the place of service. These operations require minimal cooking at the point of service (e.g panipuri or bhelpuri) but the number of items prepared may not be large.

Management in food service includes management of human and non - human resources generally known as 6M's - money, material, man (human resource), machines, minutes (time) and markets.

Management in food service includes several functions - planning, organising, delegating, motivating, directing, reporting, budgeting and coordinating the entire process.

Which of the following is NOT among the 6 M's of management in food service?

1. Man
2. Material
3. Manipulation
4. Market

Options :

- 485584154205. 1
- 485584154206. 2
- 485584154207. 3
- 485584154208. 4

Question Number : 727 Question Id : 48558438552 Question Type : MCQ Option Shuffling : No Is Question Mandatory : No Calculator : None Response Time : N.A Think Time : N.A Minimum Instruction Time : 0

Correct Marks : 5 Wrong Marks : 1

Question Key Details :

Key	Value
Comprehension	Compl

नीचे दिये गये मद्यांश को पढ़ें और नीचे दिए गए के उत्तर दीजिए

भोजन सेवा प्रणाली के चार प्रकार होते हैं -

परंपरागत भोजन प्रणालियाँ : भोजन उसी परिसर के रसोईघर में तैयार किया जाता है, जहाँ परोसा जाना है जैसे- कैफेटेरिया, रेस्तरां, छात्रवासों के भोजन कक्षों या यह अस्पतालों में मरीजों को ट्रेन में सजाकर परोसा जा सकता है। यह प्रणाली व्यक्तिगत पसंद के लिए अधिक अनुकूल है और व्यंजन सूची बनाने में बहुत लचीलापन रहता है। इसके अतिरिक्त वितरण (भोजन को पहुँचाने) की लागत भी बहुत कम रहती है।

कमिसरी भोजन (रसद विभाग) सेवा प्रणाली : इस पद्धति में, भोजन एक केंद्र पर तैयार किया जाता है परंतु अंतिम निर्मित और परोसने के लिए ओए दूरी पर स्थित कुछ क्षेत्रों में वितरित कर दिया जाता है जैसे- बहुत से आउटलेट जैसे कैफे, कॉफी ठे, बरिस्ता इत्यादि। इस प्रणाली में, सभी संघटक सामग्री अधिक मात्र में खरीद रख सकते हैं, हर इकाई के लिए खाद्य पदार्थ बनाने के लिए अलग उपकरण और व्यक्तियों की आवश्यकता नहीं होती है सभी इकाईयों के लिए उत्पाद की गुणवत्ता की एकरूपता सुनिश्चित की जा सकती है और यह लागत प्रभावी भी है।

तैयार भोजन संबंधी सेवा प्रणाली : खाद्य पदार्थों की परोसने के समय से बहुत पहले बनाकर तैयार कर लिया जाता है और जब तक वे उपयोग में नहीं आते उन्हें हिमशीतित रखा जाता है। जैसे- हिमशीतित हुए परांठे, समोसे, (फ्रेंच फिजर्स फ्राइज इत्यादि) खाद्य पदार्थ के हिमीकरण (फ्रीजर्स) और भंडारण के लिए विशिष्ट उपकरणों की आवश्यकता होती है।

संयोजक (असेंबली) सेवा प्रणाली : इसमें पूर्णरूप से तैयार खाद्य पदार्थ विनिमीता से खरीद लिए जाते हैं और परोसे जाने वाले स्थान पर परिष्करण (सीजनिंग), पिघलाना, गलाना, पुनः गरम करना जैसी अंतिम प्रक्रियाएँ की जाती हैं। इन कार्यों में परोसने के स्थान पर कम से कम पाक क्रिया करने की आवश्यकता होती है, (उदाहरण पानी पूरी या भेल पूरी) लेकिन यह तैयार की जाने वाली वस्तुओं की संख्या बहुत अधिक नहीं होती है। भोजन सेवा में प्रबंधन में मानव का प्रबंधन और गैर मानव संसाधन को सम्मिलित किया जाता है इसको सामान्यतः 6 M धन, सामग्री, मनुष्य, मशीनें, मिनट (समय) और बाजार के रूप में जानते हैं।

भोजन सेवा के प्रबंधन में कई कार्य सम्मिलित है- नियोजन, आयोजन, प्रतिनिधित्व, निर्देशन, प्रेरित करना, बजट बनाना और संपूर्ण प्रक्रम का समन्वय करना शामिल है।

निम्नलिखित में कौन-सा भोजन सेवा प्रबंधन के 6M में शामिल नहीं है?

1. पुरुष
2. सामग्री
3. हस्तकौशल
4. बाजार

Options :

485584154205. 1
485584154206. 2
485584154207. 3
485584154208. 4

Question Number : 728 Question Id : 48558438553 Question Type : MCQ Option Shuffling : No Is Question Mandatory : No Calculator : None Response Time : N.A Think Time : N.A Minimum Instruction Time : 0

Correct Marks : 5 Wrong Marks : 1

Question Key Details :

Key	Value
Comprehension	Comp1

Read the passage carefully and answer the questions :

There are four types of food service systems-

Conventional food service system : Food is prepared in a kitchen on the premises where the food is to be served. E.g in cafeterias, restaurants, dining areas of hostels or it may be carried on trays and served to patients in hospitals. This system is more adaptable to individual preferences and there is a greater flexibility in meal planning, and distribution costs are minimal.

Commissary food service system : Food is prepared centrally at one place but is distributed to several remote areas for final preparation and service. E.g - there are chains of outlets like Cafe Coffee Day, Barista etc. In this system, all ingredients can be purchased in bulk, no need for separate equipment and personnel to cook the food in each unit, thus, ensuring product quality and cost - effectiveness.

Ready - prepared food service system : Foods are prepared well in advance before the serving time and are frozen until used.(E.g, frozen parathas, samosas, French fries etc). There is a need for special equipment for freezing and storing the frozen food.

Assembly service system : Fully prepared foods are purchased from manufacturers and only finishing processes like seasoning ,thawing, reheating is done at the place of service. These operations require minimal cooking at the point of service (e.g panipuri or bhelpuri) but the number of items prepared may not be large. Management in food service includes management of human and non - human resources generally known as 6M's - money, material, man (human resource), machines, minutes (time) and markets.

Management in food service includes several functions - planning, organising, delegating, motivating, directing, reporting, budgeting and coordinating the entire process.

Match List I with List II

LIST I		LIST II	
Types of food service system		Examples	
A.	Conventional food service system	I.	Frozen parathas / outlets
B.	Commissary food service system	II.	Golgappas
C.	Ready prepared food service system	III.	Hostel kitchen
D.	Assembly service system	IV.	Coffee Day

Choose the correct answer from the options given below:

1. A-I, B-II, C-III, D-IV
2. A-III, B-IV, C-I, D-II
3. A-II, B-III, C-IV, D-I
4. A-IV, B-I, C-II, D-III

Options :

485584154209. 1
 485584154210. 2
 485584154211. 3
 485584154212. 4

Question Number : 728 Question Id : 48558438553 Question Type : MCQ Option Shuffling : No Is Question Mandatory : No Calculator : None Response Time : N.A Think Time : N.A Minimum Instruction Time : 0

Correct Marks : 5 Wrong Marks : 1

Question Key Details :

Key	Value
Comprehension	Compl

नीचे दिये गये गद्यांश को पढ़ें और नीचे दिए गए के उत्तर दीजिए

भोजन सेवा प्रणाली के चार प्रकार होते हैं -

परंपरागत भोजन प्रणालियाँ : भोजन उसी परिसर के रसोईघर में तैयार किया जाता है, जहाँ परोसा जाना है जैसे- कैफेटेरिया, रेस्तरां, छात्रवासों के भोजन कक्षों या यह अस्पतालों में मरीजों को ट्रेन में सजाकर परोसा जा सकता है। यह प्रणाली व्यक्तिगत पसंद के लिए अधिक अनुकूल है और व्यंजन सूची बनाने में बहुत लचीलापन रहता है। इसके अतिरिक्त वितरण (भोजन को पहुँचाने) की लागत भी बहुत कम रहती है।

कमिसरी भोजन (रसद विभाग) सेवा प्रणाली : इस पद्धति में, भोजन एक केंद्र पर तैयार किया जाता है परंतु अंतिम निर्मित और परोसने के लिए दूरी पर स्थित कुछ क्षेत्रों में वितरित कर दिया जाता है जैसे- बहुत से आउटलेट जैसे कैफे, कॉफी डे, बरिस्ता इत्यादि। इस प्रणाली में, सभी संघटक सामग्री अधिक मात्र में खरीद रख सकते हैं, हर इकाई के लिए खाद्य पदार्थ बनाने के लिए अलग उपकरण और व्यक्तियों की आवश्यकता नहीं होती है सभी इकाईयों के लिए उत्पाद की गुणवत्ता की एकरूपता सुनिश्चित की जा सकती है और यह लागत प्रभावी भी है।

तैयार भोजन संबंधी सेवा प्रणाली : खाद्य पदार्थों की परोसने के समय से बहुत पहले बनाकर तैयार कर लिया जाता है और जब तक वे उपयोग में नहीं आते उन्हें हिमशीतित रखा जाता है। जैसे-हिमशीतित हुए परांठे, समोसे, (फ्रेंच फिजर्स फ्राइज इत्यादि) खाद्य पदार्थ के हिमीकरण (फ्रीजर्स) और भंडारण के लिए विशिष्ट उपकरणों की आवश्यकता होती है।

संयोजक (असेंबली) सेवा प्रणाली : इसमें पूर्णरूप से तैयार खाद्य पदार्थ विनिमीता से खरीद लिए जाते हैं और परोसे जाने वाले स्थान पर परिष्करण (सीजनिंग), पिघलाना, गलाना, पुनः गरम करना जैसी अंतिम प्रक्रियाएँ की जाती हैं। इन कार्यों में परोसने के स्थान पर कम से कम पाक क्रिया करने की आवश्यकता होती है, (उदाहरण पानी पूरी या भेल पूरी) लेकिन यह तैयार की जाने वाली वस्तुओं की संख्या बहुत अधिक नहीं होती है। भोजन सेवा में प्रबंधन में मानव का प्रबंधन और गैर मानव संसाधन को सम्मिलित किया जाता है इसको सामान्यतः 6 M धन, सामग्री, मनुष्य, मशीनें, मिनट (समय) और बाजार के रूप में जानते हैं।

भोजन सेवा के प्रबंधन में कई कार्य सम्मिलित है- नियोजन, आयोजन, प्रतिनिधित्व, निर्देशन, प्रेरित करना, बजट बनाना और संपूर्ण प्रक्रम का समन्वय करना शामिल है।

सूची I का सूची II से मिलान कीजिए

सूची I (भोजन सेवा प्रणाली के प्रकार)	सूची II (उदाहरण)
A. परंपरागत भोजन सेवा प्रणाली	I. हिमशीतित परांठा कटलेट
B. कमिसरी भोजन सेवा प्रणाली	II. शीत गण्डा
C. तैयार भोजन संबंधी भोजन सेवा प्रणाली	III. छात्रवास भोजन कक्ष
D. संयोजक (असेंबली) भोजन सेवा प्रणाली	IV. कॉफी डे

निम्नलिखित विकल्पों में से सही उत्तर का चयन कीजिए :

1. A-I, B-II, C-III, D-IV
2. A-III, B-IV, C-I, D-II
3. A-II, B-III, C-IV, D-I
4. A-IV, B-I, C-II, D-III

Options :

485584154209. 1
485584154210. 2
485584154211. 3
485584154212. 4

Question Number : 729 Question Id : 48558438554 Question Type : MCQ Option Shuffling : No Is Question Mandatory : No Calculator : None Response Time : N.A Think Time : N.A Minimum Instruction Time : 0

Correct Marks : 5 Wrong Marks : 1

Question Key Details :

Key	Value
Comprehension	Compl

Read the passage carefully and answer the questions :

There are four types of food service systems-

Conventional food service system : Food is prepared in a kitchen on the premises where the food is to be served. E.g in cafeterias, restaurants, dining areas of hostels or it may be carried on trays and served to patients in hospitals. This system is more adaptable to individual preferences and there is a greater flexibility in meal planning, and distribution costs are minimal.

Commissary food service system : Food is prepared centrally at one place but is distributed to several remote areas for final preparation and service. E.g - there are chains of outlets like Cafe Coffee Day, Barista etc. In this system, all ingredients can be purchased in bulk, no need for separate equipment and personnel to cook the food in each unit, thus, ensuring product quality and cost - effectiveness.

Ready - prepared food service system : Foods are prepared well in advance before the serving time and are frozen until used.(E.g, frozen parathas, samosas, French fries etc). There is a need for special equipment for freezing and storing the frozen food.

Assembly service system : Fully prepared foods are purchased from manufacturers and only finishing processes like seasoning ,thawing, reheating is done at the place of service. These operations require minimal cooking at the point of service (e.g panipuri or bhelpuri) but the number of items prepared may not be large. Management in food service includes management of human and non - human resources generally known as 6M's - money, material, man (human resource), machines, minutes (time) and markets.

Management in food service includes several functions - planning, organising, delegating, motivating, directing, reporting, budgeting and coordinating the entire process.

What type of food service system involves purchase of fully prepared food and only seasoning, reheating etc at the place of service?

1. Conventional food service system
2. Assembly service system
3. Commissary food service system
4. Ready - prepared food service system

Options :

485584154213. 1

485584154214. 2

485584154215. 3

485584154216. 4

Question Number : 729 Question Id : 48558438554 Question Type : MCQ Option Shuffling : No Is Question Mandatory : No Calculator : None Response Time : N.A Think Time : N.A Minimum Instruction Time : 0

Correct Marks : 5 Wrong Marks : 1

Question Key Details :

Key	Value
Comprehension	Compl

नीचे दिये गये गद्यांश को पढ़ें और नीचे दिए गए के उत्तर दीजिए

भोजन सेवा प्रणाली के चार प्रकार होते हैं -

परंपरागत भोजन प्रणालियाँ : भोजन उसी परिसर के रसोईघर में तैयार किया जाता है, जहाँ परोसा जाना है जैसे- कैफेटेरिया, रेस्तरां, छात्रवासों के भोजन कक्षों या यह अस्पतालों में मरीजों को ट्रेन में सजाकर परोसा जा सकता है। यह प्रणाली व्यक्तिगत पसंद के लिए अधिक अनुकूल है और व्यंजन सूची बनाने में बहुत लचीलापन रहता है। इसके अतिरिक्त वितरण (भोजन को पहुँचाने) की लागत भी बहुत कम रहती है।

कमिसरी भोजन (रसद विभाग) सेवा प्रणाली : इस पद्धति में, भोजन एक केंद्र पर तैयार किया जाता है परंतु अंतिम निर्मित और परोसने के लिए ओए दूरी पर स्थित कुछ क्षेत्रों में वितरित कर दिया जाता है जैसे- बहुत से आउटलेट जैसे कैफे, कॉफी ठे, बरिस्ता इत्यादि। इस प्रणाली में, सभी संघटक सामग्री अधिक मात्र में खरीद रख सकते हैं, हर इकाई के लिए खाद्य पदार्थ बनाने के लिए अलग उपकरण और व्यक्तियों की आवश्यकता नहीं होती है सभी इकाईयों के लिए उत्पाद की गुणवत्ता की एकरूपता सुनिश्चित की जा सकती है और यह लागत प्रभावी भी है।

तैयार भोजन संबंधी सेवा प्रणाली : खाद्य पदार्थों की परोसने के समय से बहुत पहले बनाकर तैयार कर लिया जाता है और जब तक वे उपयोग में नहीं आते उन्हें हिमशीतित रखा जाता है। जैसे- हिमशीतित हुए परांठे, समोसे, (फ्रेंच फिजर्स फ्राइज इत्यादि) खाद्य पदार्थ के हिमीकरण (फ्रीजर्स) और भंडारण के लिए विशिष्ट उपकरणों की आवश्यकता होती है।

संयोजक (असेंबली) सेवा प्रणाली : इसमें पूर्णरूप से तैयार खाद्य पदार्थ विनिमीता से खरीद लिए जाते हैं और परोसे जाने वाले स्थान पर परिपक्व (सीजनिंग), पिघलाना, गलाना, पुनः गरम करना जैसी अंतिम प्रक्रियाएँ की जाती हैं। इन कार्यों में परोसने के स्थान पर कम से कम पाक क्रिया करने की आवश्यकता होती है, (उदाहरण पानी पूरी या भेल पूरी) लेकिन यह तैयार की जाने वाली वस्तुओं की संख्या बहुत अधिक नहीं होती है। भोजन सेवा में प्रबंधन में मानव का प्रबंधन और गैर मानव संसाधन को सम्मिलित किया जाता है इसको सामान्यतः 6 M धन, सामग्री, मनुष्य, मशीनें, मिनट (समय) और बाजार के रूप में जानते हैं।

भोजन सेवा के प्रबंधन में कई कार्य सम्मिलित है- नियोजन, आयोजन, प्रतिनिधित्व, निर्देशन, प्रेरित करना, बजट बनाना और संपूर्ण प्रक्रम का समन्वय करना शामिल है।

किस प्रकार की भोजन सेवा प्रणाली में सेवा के स्थान पर पूर्णरूप से तैयार खाद्य पदार्थ को विनिमीता से खरीदना और केवल (सीजनिंग), पुनः गरम करना इत्यादि सम्मिलित है?

1. परंपरागत भोजन सेवा प्रणाली
2. तैयार भोजन संबंधी भोजन सेवा प्रणाली
3. संयोजक भोजन सेवा प्रणाली
4. कमिसरी भोजन सेवा प्रणाली

Options :

485584154213. 1
485584154214. 2
485584154215. 3
485584154216. 4

Question Number : 730 Question Id : 48558438555 Question Type : MCQ Option Shuffling : No Is Question Mandatory : No Calculator : None Response Time : N.A Think Time : N.A Minimum Instruction Time : 0

Correct Marks : 5 Wrong Marks : 1

Question Key Details :

Key	Value
Comprehension	Compl

Read the passage carefully and answer the questions :

There are four types of food service systems-

Conventional food service system : Food is prepared in a kitchen on the premises where the food is to be served. E.g in cafeterias, restaurants, dining areas of hostels or it may be carried on trays and served to patients in hospitals. This system is more adaptable to individual preferences and there is a greater flexibility in meal planning, and distribution costs are minimal.

Commissary food service system : Food is prepared centrally at one place but is distributed to several remote areas for final preparation and service. E.g - there are chains of outlets like Cafe Coffee Day, Barista etc. In this system, all ingredients can be purchased in bulk, no need for separate equipment and personnel to cook the food in each unit, thus, ensuring product quality and cost - effectiveness.

Ready - prepared food service system : Foods are prepared well in advance before the serving time and are frozen until used.(E.g, frozen parathas, samosas, French fries etc). There is a need for special equipment for freezing and storing the frozen food.

Assembly service system : Fully prepared foods are purchased from manufacturers and only finishing processes like seasoning ,thawing, reheating is done at the place of service. These operations require minimal cooking at the point of service (e.g panipuri or bhelpuri) but the number of items prepared may not be large. Management in food service includes management of human and non - human resources generally known as 6M's - money, material, man (human resource), machines, minutes (time) and markets.

Management in food service includes several functions - planning, organising, delegating, motivating, directing, reporting, budgeting and coordinating the entire process.

Identify the functions of management in food service:

- A. Planning, organising, delegating
- B. Food processing
- C. Motivating, directing
- D. Reporting, budgeting
- E. Coordinating

- 1. A, B, D and E only
- 2. B, C, D and E only
- 3. A, C, D and E only
- 4. A, B, C and D only

Options :

- 485584154217. 1
- 485584154218. 2
- 485584154219. 3
- 485584154220. 4

Question Number : 730 Question Id : 48558438555 Question Type : MCQ Option Shuffling : No Is Question Mandatory : No Calculator : None Response Time : N.A Think Time : N.A Minimum Instruction Time : 0

Correct Marks : 5 Wrong Marks : 1

Question Key Details :

Key	Value
Comprehension	Comp1

नीचे दिये गये गद्यांश को पढ़ें और नीचे दिए गए के उत्तर दीजिए

भोजन सेवा प्रणाली के चार प्रकार होते हैं -

परंपरागत भोजन प्रणालियाँ : भोजन उसी परिसर के रसोईघर में तैयार किया जाता है, जहाँ परोसा जाना है जैसे- कैफेटेरिया, रेस्तरां, छात्रवासों के भोजन कक्षों या यह अस्पतालों में मरीजों को ट्रेन में सजाकर परोसा जा सकता है। यह प्रणाली व्यक्तिगत पसंद के लिए अधिक अनुकूल है और व्यंजन सूची बनाने में बहुत लचीलापन रहता है। इसके अतिरिक्त वितरण (भोजन को पहुँचाने) की लागत भी बहुत कम रहती है।

कमिसरी भोजन (रसद विभाग) सेवा प्रणाली : इस पद्धति में, भोजन एक केंद्र पर तैयार किया जाता है परंतु अंतिम निर्मित और परोसने के लिए दूरी पर स्थित कुछ क्षेत्रों में वितरित कर दिया जाता है जैसे- बहुत से आउटलेट जैसे कैफे, कॉफी ठे, बरिस्ता इत्यादि। इस प्रणाली में, सभी संघटक सामग्री अधिक मात्र में खरीद रख सकते हैं, हर इकाई के लिए खाद्य पदार्थ बनाने के लिए अलग उपकरण और व्यक्तियों की आवश्यकता नहीं होती है सभी इकाईयों के लिए उत्पाद की गुणवत्ता की एकरूपता सुनिश्चित की जा सकती है और यह लागत प्रभावी भी है।

तैयार भोजन संबंधी सेवा प्रणाली : खाद्य पदार्थों की परोसने के समय से बहुत पहले बनाकर तैयार कर लिया जाता है और जब तक वे उपयोग में नहीं आते उन्हें हिमशीतित रखा जाता है। जैसे-हिमशीतित हुए परांठे, समोसे, (फ्रेंच फिजर्स फ्राइज इत्यादि) खाद्य पदार्थ के हिमीकरण (फ्रीजर्स) और भंडारण के लिए विशिष्ट उपकरणों की आवश्यकता होती है।

संयोजक (असेंबली) सेवा प्रणाली : इसमें पूर्णरूप से तैयार खाद्य पदार्थ विनिमीता से खरीद लिए जाते हैं और परोसे जाने वाले स्थान पर परिष्करण (सीजनिंग), पिघलाना, गलाना, पुनः गरम करना जैसी अंतिम प्रक्रियाएँ की जाती हैं। इन कार्यों में परोसने के स्थान पर कम से कम पाक क्रिया करने की आवश्यकता होती है, (उदाहरण पानी पूरी या भेल पूरी) लेकिन यह तैयार की जाने वाली वस्तुओं की संख्या बहुत अधिक नहीं होती है। भोजन सेवा में प्रबंधन में मानव का प्रबंधन और गैर मानव संसाधन को सम्मिलित किया जाता है इसको सामान्यतः 6 M धन, सामग्री, मनुष्य, मशीनें, मिनट (समय) और बाजार के रूप में जानते हैं।

भोजन सेवा के प्रबंधन में कई कार्य सम्मिलित है- नियोजन, आयोजन, प्रतिनिधित्व, निर्देशन, प्रेरित करना, बजट बनाना और संपूर्ण प्रक्रम का समन्वय करना शामिल है।

भोजन सेवा प्रबंधन के कार्यों की पहचान करिए :

- A. योजना, आयोजन, नियंत्रण सौपना
- B. खाद्य प्रसंस्करण
- C. अभिप्रेरक निर्देशन
- D. प्रतिवेदन/बजट बनाना
- E. समन्वयीकरण

- 1. केवल A, B, D और E
- 2. केवल B, C, D और E
- 3. केवल A, C, D और E
- 4. केवल A, B, C और D

Options :

- 485584154217. 1
- 485584154218. 2
- 485584154219. 3
- 485584154220. 4

Sub-Section Number :

3

Sub-Section Id :

4855842942

Question Shuffling Allowed :

No

Is Section Default? :

null

Question Number : 731 **Question Id :** 48558438556 **Question Type :** MCQ **Option Shuffling :** No **Is Question Mandatory :** No **Calculator :** None **Response Time :** N.A **Think Time :** N.A **Minimum Instruction Time :** 0

Correct Marks : 5 **Wrong Marks :** 1

Question Key Details :

Key	Value
Comprehension	Comp2

Read the following passage and answer the following questions from.

RRE was a nationwide communication campaign for generating awareness about HIV / AIDS. A specially designed train traversed over 9,000 km a year, covering 180 districts / halt stations, and held programmes and activities in 43,200 villages. It comprised of seven coaches, equipped with educational material, primarily on HIV / AIDS, interactive touch screens and 3-D models, services in the context of HIV-TB co-infection, an LCD projector and platform for folk performances, counselling cabins and two doctors' cabins for providing counselling and treatment.

The project was implemented by National AIDS control organisation (NACO), Nehru Yuva Kendra Sangathan(NYKS) and International Agencies such as UNICEF and UNAIDS, in cooperation with Indian Railways.

What is the full form of RRE?

1. Red Ribbon Express
2. Red Rainbow Express
3. Rural Ribbon Express
4. Rainbow Rural express

Options :

485584154221. 1
485584154222. 2
485584154223. 3
485584154224. 4

Question Number : 731 Question Id : 48558438556 Question Type : MCQ Option Shuffling : No Is Question Mandatory : No Calculator : None Response Time : N.A Think Time : N.A Minimum Instruction Time : 0

Correct Marks : 5 Wrong Marks : 1

Question Key Details :

Key	Value
Comprehension	Comp2

नीचे दिये गये गद्यांश को पढ़े और प्रश्नों के उत्तर दीजिए

रेड रिबन एक्सप्रेस एच. आई. वी. एड्स के बारे में जागरूकता उत्पन्न करने के लिए देशव्यापी अभियान था। विशेष रूप से डिजाइन की गई एक रेलगाड़ी एक वर्ष में 9,000 किलोमीटर से अधिक चली। इसने 180 जिले/हॉल्ट स्टेशन तय किए एवं 43,200 गाँवों में कार्यक्रम तथा क्रियाकलाप आयोजित किए। इसमें सात डिब्बे थे, जो शैक्षिक साधनों, मुख्य रूप से एचआईवी-एड्स, अन्योन्यक्रियात्मक टच स्क्रीन तथा 3-D मॉडल, एच. आई. वी./टीबी संक्रमण के संदर्भ में सेवाएँ, एल. सी. टी. प्रोजेक्टरों तथा लोक कार्यक्रम मंच, परामर्श देने के लिए केबिन तथा डॉक्टरों के दो केबिन, जिनमें परामर्श तथा चिकित्सा की व्यवस्था थी।

परियोजना को राष्ट्रीय एड्स नियंत्रण संगठन (नाको), नेहरू युवा केंद्र संगठन तथा यूनिसेफ तथा यू. एन. एड्स आदि अंतरराष्ट्रीय एजेंसियों ने भारतीय रेलवे के साथ मिलकर कार्यान्वित किया।

RRE का संक्षिप्त रूप है ?

1. रेड रिबन एक्सप्रेस
2. रेड रेनबो एक्सप्रेस
3. रुरल रिबन एक्सप्रेस
4. रेनबो रुरल एक्सप्रेस

Options :

485584154221. 1
485584154222. 2
485584154223. 3
485584154224. 4

Question Number : 732 Question Id : 48558438557 Question Type : MCQ Option Shuffling : No Is Question Mandatory : No Calculator : None
Response Time : N.A Think Time : N.A Minimum Instruction Time : 0

Correct Marks : 5 Wrong Marks : 1

Question Key Details :

Key	Value
Comprehension	Comp2

Read the following passage and answer the following questions from.

RRE was a nationwide communication campaign for generating awareness about HIV / AIDS. A specially designed train traversed over 9,000 km a year, covering 180 districts / halt stations, and held programmes and activities in 43,200 villages. It comprised of seven coaches, equipped with educational material, primarily on HIV / AIDS, interactive touch screens and 3-D models, services in the context of HIV-TB co-infection, an LCD projector and platform for folk performances, counselling cabins and two doctors' cabins for providing counselling and treatment.

The project was implemented by National AIDS control organisation (NACO), Nehru Yuva Kendra Sangathan (NYKS) and International Agencies such as UNICEF and UNAIDS, in cooperation with Indian Railways.

How many districts were covered under RRE campaign?

1. 180
2. 190
3. 170
4. 160

Options :

485584154225. 1
485584154226. 2
485584154227. 3
485584154228. 4

Question Number : 732 Question Id : 48558438557 Question Type : MCQ Option Shuffling : No Is Question Mandatory : No Calculator : None
Response Time : N.A Think Time : N.A Minimum Instruction Time : 0

Correct Marks : 5 Wrong Marks : 1

Question Key Details :

Key	Value
Comprehension	Comp2

नीचे दिये गये गद्यांश को पढ़े और प्रश्नों के उत्तर दीजिए

रेड रिबन एक्सप्रेस एच. आई. टी. एड्स के बारे में जागरूकता उत्पन्न करने के लिए देशव्यापी अभियान था। विशेष रूप से डिजाइन की गई एक रेलगाड़ी एक वर्ष में 9,000 किलोमीटर से अधिक चली। इसने 180 जिले/हॉल्ट स्टेशन तय किए एवं 43,200 गाँवों में कार्यक्रम तथा क्रियाकलाप आयोजित किए। इसमें सात डिब्बे थे, जो शैक्षिक साधनों, मुख्य रूप से एचआईटी/एड्स, अन्योन्यक्रियात्मक टच स्क्रीन तथा 3-D मॉडल, एच. आई. टी./टीबी संक्रमण के संदर्भ में सेवाएँ, एल. सी. टी. प्रोजेक्टरों तथा लोक कार्यक्रम मंच, परामर्श देने के लिए केबिन तथा डॉक्टरों के दो केबिन, जिनमें परामर्श तथा चिकित्सा की व्यवस्था थी।

परियोजना को राष्ट्रीय एड्स नियंत्रण संगठन (नाको), नेहरू युवा केंद्र संगठन तथा यूनिसेफ तथा यू. एन. एड्स आदि अंतर्राष्ट्रीय एजेंसियों ने भारतीय रेलवे के साथ मिलकर कार्यान्वित किया।

RRE अभियान कितने जिलों को आवरण करता है।

1. 180
2. 190
3. 170
4. 160

Options :

485584154225. 1
485584154226. 2
485584154227. 3
485584154228. 4

Question Number : 733 Question Id : 48558438558 Question Type : MCQ Option Shuffling : No Is Question Mandatory : No Calculator : None Response Time : N.A Think Time : N.A Minimum Instruction Time : 0

Correct Marks : 5 Wrong Marks : 1

Question Key Details :

Key	Value
Comprehension	Comp2

Read the following passage and answer the following questions from.

RRE was a nationwide communication campaign for generating awareness about HIV / AIDS. A specially designed train traversed over 9,000 km a year, covering 180 districts / halt stations, and held programmes and activities in 43,200 villages. It comprised of seven coaches, equipped with educational material, primarily on HIV / AIDS, interactive touch screens and 3-D models, services in the context of HIV-TB co-infection, an LCD projector and platform for folk performances, counselling cabins and two doctors' cabins for providing counselling and treatment.

The project was implemented by National AIDS control organisation (NACO), Nehru Yuva Kendra Sangathan(NYKS) and International Agencies such as UNICEF and UNAIDS, in cooperation with Indian Railways.

Which of the following body was involved in implementation in RRE project?

1. NACO
2. Ministry of Health and Family Welfare
3. CARA
4. Ministry of Women and Child Development

Options :

485584154229. 1
485584154230. 2
485584154231. 3
485584154232. 4

Question Number : 733 Question Id : 48558438558 Question Type : MCQ Option Shuffling : No Is Question Mandatory : No Calculator : None Response Time : N.A Think Time : N.A Minimum Instruction Time : 0

Correct Marks : 5 Wrong Marks : 1

Question Key Details :

Key	Value
Comprehension	Comp2

नीचे दिये गये गद्यांश को पढ़े और प्रश्नों के उत्तर दीजिए

रेल रिबन एक्सप्रेस एच. आई. टी. एड्स के बारे में जागरूकता उत्पन्न करने के लिए देशव्यापी अभियान था। विशेष रूप से डिजाइन की गई एक रेलगाड़ी एक वर्ष में 9,000 किलोमीटर से अधिक चली। इसने 180 जिले/हॉल्ट स्टेशन तय किए एवं 43,200 गाँवों में कार्यक्रम तथा क्रियाकलाप आयोजित किए। इसमें सात डिब्बे थे, जो शैक्षिक साधनों, मुख्य रूप से एचआईटी-एड्स, अन्योन्यक्रियात्मक टच स्क्रीन तथा 3-D मॉडल, एच. आई. टी./टीबी संक्रमण के संदर्भ में सेवाएँ, एल. सी. टी. प्रोजेक्टरों तथा लोक कार्यक्रम मंच, परामर्श देने के लिए केबिन तथा डॉक्टरों के दो केबिन, जिनमें परामर्श तथा चिकित्सा की व्यवस्था थी।

परियोजना को राष्ट्रीय एड्स नियंत्रण संगठन (नाको), नेहरू युवा केंद्र संगठन तथा यूनिसेफ तथा यू. एन. एड्स आदि अंतर्राष्ट्रीय एजेंसियों ने भारतीय रेलवे के साथ मिलकर कार्यान्वित किया।

RRE परियोजना से क्रियान्वयन में से कौन-सा निकाय शामिल था?

1. एन ए सी ओ
2. स्वास्थ्य एवं परिवार कल्याण मंत्रालय
3. कारा (CARA)
4. महिला एवं बाल विकास मंत्रालय

Options :

485584154229. 1
485584154230. 2
485584154231. 3
485584154232. 4

Question Number : 734 Question Id : 48558438559 Question Type : MCQ Option Shuffling : No Is Question Mandatory : No Calculator : None Response Time : N.A Think Time : N.A Minimum Instruction Time : 0

Correct Marks : 5 Wrong Marks : 1

Question Key Details :

Key	Value
Comprehension	Comp2

Read the following passage and answer the following questions from.

RRE was a nationwide communication campaign for generating awareness about HIV / AIDS. A specially designed train traversed over 9,000 km a year, covering 180 districts / halt stations, and held programmes and activities in 43,200 villages. It comprised of seven coaches, equipped with educational material, primarily on HIV / AIDS, interactive touch screens and 3-D models, services in the context of HIV-TB co-infection, an LCD projector and platform for folk performances, counselling cabins and two doctors' cabins for providing counselling and treatment.

The project was implemented by National AIDS control organisation (NACO), Nehru Yuva Kendra Sangathan (NYKS) and International Agencies such as UNICEF and UNAIDS, in cooperation with Indian Railways.

Identify the disease for which awareness was generated in RRE campaign?

1. HIV/AIDS
2. Cardiovascular disease
3. diabetes
4. Cancer

Options :

485584154233. 1
485584154234. 2
485584154235. 3
485584154236. 4

Question Number : 734 Question Id : 48558438559 Question Type : MCQ Option Shuffling : No Is Question Mandatory : No Calculator : None
Response Time : N.A Think Time : N.A Minimum Instruction Time : 0

Correct Marks : 5 Wrong Marks : 1

Question Key Details :

Key	Value
Comprehension	Comp2

नीचे दिये गये गद्यांश को पढ़े और प्रश्नों के उत्तर दीजिए

रेड रिबन एक्सप्रेस एच. आई. वी. एड्स के बारे में जागरूकता उत्पन्न करने के लिए देशव्यापी अभियान था। विशेष रूप से डिजाइन की गई एक रेलगाड़ी एक वर्ष में 9,000 किलोमीटर से अधिक चली। इसने 180 जिले/हॉल्ट स्टेशन तय किए एवं 43,200 गाँवों में कार्यक्रम तथा क्रियाकलाप आयोजित किए। इसमें सात डिब्बे थे, जो शैक्षिक साधनों, मुख्य रूप से एचआईवी/एड्स, अन्योन्यक्रियात्मक टच स्क्रीन तथा 3-D मॉडल, एच. आई. वी./टीबी संक्रमण के संदर्भ में सेवाएँ, एल. सी. टी. प्रोजेक्टरों तथा लोक कार्यक्रम मंच, परामर्श देने के लिए केबिन तथा डॉक्टरों के दो केबिन, जिनमें परामर्श तथा चिकित्सा की व्यवस्था थी।

परियोजना को राष्ट्रीय एड्स नियंत्रण संगठन (नाको), नेहरू युवा केंद्र संगठन तथा यूनिसेफ तथा यू. एन. एड्स आदि अंतर्राष्ट्रीय एजेंसियों ने भारतीय रेलवे के साथ मिलकर कार्यान्वित किया।

RRE कैम्पेन के दौरान जिस बीमारी के बारे में जागरूकता फैलाई गयी, उसकी पहचान करें :

1. एच आई वी एड्स
2. हृदय संबंधी रोग
3. मधुमेह
4. कैंसर

Options :

485584154233. 1
485584154234. 2
485584154235. 3
485584154236. 4

Question Number : 735 Question Id : 48558438560 Question Type : MCQ Option Shuffling : No Is Question Mandatory : No Calculator : None
Response Time : N.A Think Time : N.A Minimum Instruction Time : 0

Correct Marks : 5 Wrong Marks : 1

Question Key Details :

Key	Value
Comprehension	Comp2

Read the following passage and answer the following questions from.

RRE was a nationwide communication campaign for generating awareness about HIV / AIDS. A specially designed train traversed over 9,000 km a year, covering 180 districts / halt stations, and held programmes and activities in 43,200 villages. It comprised of seven coaches, equipped with educational material, primarily on HIV / AIDS, interactive touch screens and 3-D models, services in the context of HIV-TB co-infection, an LCD projector and platform for folk performances, counselling cabins and two doctors' cabins for providing counselling and treatment.

The project was implemented by National AIDS control organisation (NACO), Nehru Yuva Kendra Sangathan (NYKS) and International Agencies such as UNICEF and UNAIDS, in cooperation with Indian Railways.

How many coaches were equipped with educational material mainly on HIV/AIDS ?

1. Six
2. Two
3. Seven
4. Ten

Options :

485584154237. 1
485584154238. 2
485584154239. 3
485584154240. 4

Question Number : 735 Question Id : 48558438560 Question Type : MCQ Option Shuffling : No Is Question Mandatory : No Calculator : None Response Time : N.A Think Time : N.A Minimum Instruction Time : 0

Correct Marks : 5 Wrong Marks : 1

Question Key Details :

Key	Value
Comprehension	Comp2

नीचे दिये गये गद्यांश को पढ़े और प्रश्नों के उत्तर दीजिए

रेड रिबन एक्सप्रेस एच. आई. वी. एड्स के बारे में जागरूकता उत्पन्न करने के लिए देशव्यापी अभियान था। विशेष रूप से डिजाइन की गई एक रेलगाड़ी एक वर्ष में 9,000 किलोमीटर से अधिक चली। इसने 180 जिले/हॉल्ट स्टेशन तय किए एवं 43,200 गाँवों में कार्यक्रम तथा क्रियाकलाप आयोजित किए। इसमें सात डिब्बे थे, जो शैक्षिक साधनों, मुख्य रूप से एचआईवी/एड्स, अन्योन्यक्रियात्मक टच स्क्रीन तथा 3-D मॉडल, एच. आई. वी./टीबी संक्रमण के संदर्भ में सेवाएँ, एल. सी. टी. प्रोजेक्टरों तथा लोक कार्यक्रम मंच, परामर्श देने के लिए केबिन तथा डॉक्टरों के दो केबिन, जिनमें परामर्श तथा चिकित्सा की व्यवस्था थी।

परियोजना को राष्ट्रीय एड्स नियंत्रण संगठन (नाको), नेहरू युवा केंद्र संगठन तथा यूनिसेफ तथा पू. एन. एड्स आदि अंतर्राष्ट्रीय एजेंसियों ने भारतीय रेलवे के साथ मिलकर कार्यान्वित किया।

कितने डिब्बों में एड्स/एचआईवी के संदर्भ में शैक्षिक सामग्री के रखी गयी थी?

1. छः
2. दो
3. सात
4. दस

Options :

485584154237. 1
485584154238. 2
485584154239. 3
485584154240. 4

Legal Studies

Group Number :	16
Group Id :	485584897
Group Maximum Duration :	45
Group Minimum Duration :	45

Show Attended Group? : No
Edit Attended Group? : No
Break time : 0
Group Marks : 200
Is this Group for Examiner? : No
Examiner permission : Cant View
Show Progress Bar? : No

Legal Studies

Section Id : 4855841039
Section Number : 1
Section type : Online
Mandatory or Optional : Mandatory
Number of Questions : 50
Number of Questions to be attempted : 40
Section Marks : 200
Enable Mark as Answered Mark for Review and Clear Response : Yes
Maximum Instruction Time : 0
Sub-Section Number : 1
Sub-Section Id : 4855842943
Question Shuffling Allowed : Yes
Is Section Default? : null

Question Number : 736 Question Id : 48558438611 Question Type : MCQ Option Shuffling : No Is Question Mandatory : No Calculator : None
Response Time : N.A Think Time : N.A Minimum Instruction Time : 0
Correct Marks : 5 Wrong Marks : 1

Question Key Details :

Key	Value
Comprehension	MCQ

Which of the following terms is used for Private International Law?

1. 'Post Conflict Laws'
2. 'Pre-Conflict Laws'
3. 'Conflict of Laws'
4. 'Existing conflict of Laws'

Options :

485584154441. 1
485584154442. 2
485584154443. 3
485584154444. 4

Question Number : 736 Question Id : 48558438611 Question Type : MCQ Option Shuffling : No Is Question Mandatory : No Calculator : None
Response Time : N.A Think Time : N.A Minimum Instruction Time : 0
Correct Marks : 5 Wrong Marks : 1

Question Key Details :

Key	Value
Comprehension	MCQ

निम्नलिखित में कौन सा पद 'नीजी' अंतर्राष्ट्रीय विधि के लिए उपयोग होता है?

1. संघर्ष पश्चात विधियाँ
2. संघर्ष पूर्व विधियाँ
3. विधियों का संघर्ष
4. विधियों का वर्तमान संघर्ष

Options :

485584154441. 1
485584154442. 2
485584154443. 3
485584154444. 4

Question Number : 737 Question Id : 48558438612 Question Type : MCQ Option Shuffling : No Is Question Mandatory : No Calculator : None Response Time : N.A Think Time : N.A Minimum Instruction Time : 0

Correct Marks : 5 Wrong Marks : 1

Question Key Details :

Key	Value
Comprehension	MCQ

Which law governs the conduct of different states outside the Indian Territory"?

1. Constitutional Law
2. International Law
3. Domestic Law
4. Law of the Land

Options :

485584154445. 1
485584154446. 2
485584154447. 3
485584154448. 4

Question Number : 737 Question Id : 48558438612 Question Type : MCQ Option Shuffling : No Is Question Mandatory : No Calculator : None Response Time : N.A Think Time : N.A Minimum Instruction Time : 0

Correct Marks : 5 Wrong Marks : 1

Question Key Details :

Key	Value
Comprehension	MCQ

निम्नलिखित में से कौन सी विधि भारतीय परिक्षेत्र के बहार विभिन्न राज्यों के आचरण को नियंत्रित करती है ?

1. संवैधानिक विधि
2. अंतर्राष्ट्रीय विधि
3. घरेलू विधि
4. देश की विधि

Options :

485584154445. 1
485584154446. 2
485584154447. 3
485584154448. 4

Question Number : 738 Question Id : 48558438613 Question Type : MCQ Option Shuffling : No Is Question Mandatory : No Calculator : None Response Time : N.A Think Time : N.A Minimum Instruction Time : 0

Correct Marks : 5 Wrong Marks : 1

Question Key Details :

Key	Value
Comprehension	MCQ

What is meaning of legal Maxim '*Salus Populi Est Suprema Lex*'?

1. The Supreme Law of Land
2. Welfare of the people is supreme
3. The law doesn't discriminate
4. The Supreme Law is for the people

Options :

485584154449. 1

485584154450. 2

485584154451. 3

485584154452. 4

Question Number : 738 Question Id : 48558438613 Question Type : MCQ Option Shuffling : No Is Question Mandatory : No Calculator : None Response Time : N.A Think Time : N.A Minimum Instruction Time : 0

Correct Marks : 5 Wrong Marks : 1

Question Key Details :

Key	Value
Comprehension	MCQ

कानून कहावत '*Salus Populi Est Suprema Lex*' का अर्थ है?

1. देश का सर्वोच्च कानून
2. प्रजा का कल्याण सर्वोपरि है
3. विधि भेदभाव नहीं करती है
4. नागरिकों के लिए सर्वोच्च कानून

Options :

485584154449. 1

485584154450. 2

485584154451. 3

485584154452. 4

Question Number : 739 Question Id : 48558438614 Question Type : MCQ Option Shuffling : No Is Question Mandatory : No Calculator : None Response Time : N.A Think Time : N.A Minimum Instruction Time : 0

Correct Marks : 5 Wrong Marks : 1

Question Key Details :

Key	Value
Comprehension	MCQ

What is meant by the term 'Pari Materia'?

1. Contradicting things
2. The similar sounding words
3. The Material holds most important
4. Of the same substance / material

Options :

485584154453. 1
485584154454. 2
485584154455. 3
485584154456. 4

Question Number : 739 Question Id : 48558438614 Question Type : MCQ Option Shuffling : No Is Question Mandatory : No Calculator : None Response Time : N.A Think Time : N.A Minimum Instruction Time : 0

Correct Marks : 5 Wrong Marks : 1

Question Key Details :

Key	Value
Comprehension	MCQ

पद 'Pari Materia' का अर्थ है?

1. विरोधाभास ब्रार्ते
2. समरूप शब्द
3. सामग्री अंतर्वस्तु महत्ता धारण करती है
4. समान पदार्थ / सामग्री वाला

Options :

485584154453. 1
485584154454. 2
485584154455. 3
485584154456. 4

Question Number : 740 Question Id : 48558438615 Question Type : MCQ Option Shuffling : No Is Question Mandatory : No Calculator : None Response Time : N.A Think Time : N.A Minimum Instruction Time : 0

Correct Marks : 5 Wrong Marks : 1

Question Key Details :

Key	Value
Comprehension	MCQ

What are the powers of Lok Adalat?

- A. Summoning and enforcing the attendance of witness
- B. Discovery and production of any document
- C. Reception of evidence on affidavits
- D. Requisitioning of public record
- E. Arrest and detention of witness

Choose the correct answer from the options given below:

- 1. A, B and E only
- 2. B, D and E only
- 3. A, B, C and E only
- 4. A, B, C and D only

Options :

- 485584154457. 1
- 485584154458. 2
- 485584154459. 3
- 485584154460. 4

Question Number : 740 Question Id : 48558438615 Question Type : MCQ Option Shuffling : No Is Question Mandatory : No Calculator : None Response Time : N.A Think Time : N.A Minimum Instruction Time : 0

Correct Marks : 5 Wrong Marks : 1

Question Key Details :

Key	Value
Comprehension	MCQ

लोक अदालत की शक्तियाँ क्या हैं?

- A. साक्षी को बुलाना और उपस्थिति प्रवर्तित करना
- B. किसी दस्तावेज़ की खोज और प्रस्तुतीकरण
- C. शपथपत्रों पर साक्ष्य प्राप्ति
- D. सार्वजनिक रिकॉर्ड मंगवाना
- E. साक्षियों/गवाहों की गिरफ्तारी और निरुद्ध किया जाना

निम्नलिखित विकल्पों में से सही उत्तर का चयन कीजिए:

- 1. केवल A, B और E
- 2. केवल B, D और E
- 3. केवल A, B, C और E
- 4. केवल A, B, C और D

Options :

- 485584154457. 1
- 485584154458. 2
- 485584154459. 3
- 485584154460. 4

Question Number : 741 Question Id : 48558438616 Question Type : MCQ Option Shuffling : No Is Question Mandatory : No Calculator : None Response Time : N.A Think Time : N.A Minimum Instruction Time : 0

Correct Marks : 5 Wrong Marks : 1

Question Key Details :

Key	Value
Comprehension	MCQ

Article 39 A of the Constitution of India was inserted in the year:

1. 1973
2. 1976
3. 1967
4. 1969

Options :

485584154461. 1
485584154462. 2
485584154463. 3
485584154464. 4

Question Number : 741 Question Id : 48558438616 Question Type : MCQ Option Shuffling : No Is Question Mandatory : No Calculator : None Response Time : N.A Think Time : N.A Minimum Instruction Time : 0

Correct Marks : 5 Wrong Marks : 1

Question Key Details :

Key	Value
Comprehension	MCQ

भारत के संविधान में अनुच्छेद 39 A _____ वर्ष में अंतःस्थापित किया गया ।

1. 1973
2. 1976
3. 1967
4. 1969

Options :

485584154461. 1
485584154462. 2
485584154463. 3
485584154464. 4

Question Number : 742 Question Id : 48558438617 Question Type : MCQ Option Shuffling : No Is Question Mandatory : No Calculator : None Response Time : N.A Think Time : N.A Minimum Instruction Time : 0

Correct Marks : 5 Wrong Marks : 1

Question Key Details :

Key	Value
Comprehension	MCQ

The Constitution of India lays down the framework of the Indian Judicial system. Select the correct statements representing true characteristic of structure and hierarchy of courts in India.

- A. Munsiff courts function just above sub-ordinate courts
- B. All the High Courts collectively have simultaneous Jurisdiction over all Union Territories
- C. The Supreme Court of India replaced both the federal court Judicial committee of privy council
- D. Indian Judiciary is also characterised by numerous quasi-judicial bodies
- E. Judicial districts in a state are presided over by a district and sessions judge

Choose the correct answer from the options given below:

- 1. A, B, C only
- 2. B, C, E only
- 3. C, D, E only
- 4. C, E, A only

Options :

- 485584154465. 1
- 485584154466. 2
- 485584154467. 3
- 485584154468. 4

Question Number : 742 Question Id : 48558438617 Question Type : MCQ Option Shuffling : No Is Question Mandatory : No Calculator : None Response Time : N.A Think Time : N.A Minimum Instruction Time : 0

Correct Marks : 5 Wrong Marks : 1

Question Key Details :

Key	Value
Comprehension	MCQ

भारत का संविधान, भारतीय न्यायिक प्रणाली की रूपरेखा निर्धारित करता है। भारत में न्यायालयों की सोपानिकी और संरचना की सत्य विशेषताओं को निरूपण करने वाले सत्य कथनों का चयन करें :-

- A. मुंसिफ न्यायालय, अधीनस्थ न्यायालयों के ऊपर कार्यरत हैं।
- B. सभी उच्च न्यायालयों का सम्मिलित रूप से सभी संघ राज्यक्षेत्रों में युगपत न्यायक्षेत्र होता है।
- C. भारत के उच्चतम न्यायालय ने संघीय न्यायालय और प्रिवी परिषद् न्यायिक समिति का स्थान लिया।
- D. भारतीय न्यायपालिका में विभिन्न न्यायिक निकाय हैं
- E. राज्यों में जिला न्यायपालिका की अर्द्ध अध्यक्षता जिला और सेशन न्यायाधीश द्वारा की जाती है।

निम्नलिखित विकल्पों में से सही उत्तर का चयन कीजिए:-

- 1. केवल A, B, C
- 2. केवल B, C, E
- 3. केवल C, D, E
- 4. केवल C, E, A

Options :

- 485584154465. 1
- 485584154466. 2
- 485584154467. 3
- 485584154468. 4

Question Number : 743 Question Id : 48558438618 Question Type : MCQ Option Shuffling : No Is Question Mandatory : No Calculator : None Response Time : N.A Think Time : N.A Minimum Instruction Time : 0

Correct Marks : 5 Wrong Marks : 1

Question Key Details :

Key	Value
-----	-------

Arrange the various stages of crime.

- A. Commission
- B. Preparation
- C. Intention
- D. Attempt

Choose the correct answer from the options given below:

- 1. B, C, A, D
- 2. D, C, B, A
- 3. C, D, B, A
- 4. C, B, D, A

Options :

- 485584154469. 1
- 485584154470. 2
- 485584154471. 3
- 485584154472. 4

Question Number : 743 Question Id : 48558438618 Question Type : MCQ Option Shuffling : No Is Question Mandatory : No Calculator : None Response Time : N.A Think Time : N.A Minimum Instruction Time : 0

Correct Marks : 5 Wrong Marks : 1

Question Key Details :

Key	Value
Comprehension	MCQ

अपराध के विभिन्न चरणों को व्यवस्थित करें:

- A. कृत्य करना
- B. तैयारी
- C. मंशा
- D. प्रयास

निम्नलिखित विकल्पों में से सही उत्तर का चयन करें :-

- 1. B, C, A, D
- 2. D, C, B, A
- 3. C, D, B, A
- 4. C, B, D, A

Options :

- 485584154469. 1
- 485584154470. 2
- 485584154471. 3
- 485584154472. 4

Question Number : 744 Question Id : 48558438619 Question Type : MCQ Option Shuffling : No Is Question Mandatory : No Calculator : None Response Time : N.A Think Time : N.A Minimum Instruction Time : 0

Correct Marks : 5 Wrong Marks : 1

Question Key Details :

Key	Value
Comprehension	MCQ

Match List I with List II

LIST I		LIST II	
A	Negligence	I	Bhopal gas leak case
B	Strict liability	II	Touching of claimant with intent to harm
C	Absolute liability	III	Breach of duty of care
D	Battery	IV	Do not care for intention of defendant

Choose the correct answer from the options given below:

1. A-IV, B-I, C-II, D-III
2. A-III, B-I, C-IV, D-II
3. A-III, B-IV, C-I, D-II
4. A-II, B-III, C-IV, D-I

Options :

485584154473. 1
485584154474. 2
485584154475. 3
485584154476. 4

Question Number : 744 Question Id : 48558438619 Question Type : MCQ Option Shuffling : No Is Question Mandatory : No Calculator : None Response Time : N.A Think Time : N.A Minimum Instruction Time : 0

Correct Marks : 5 Wrong Marks : 1

Question Key Details :

Key	Value
Comprehension	MCQ

सूची I का सूची II से मिलान कीजिए

सूची I		सूची II	
A	लापरवाही	I	भोपाल गैस रिसाव
B	कठोर देयता	II	नुकसान क्षति की मंशा से दायकर्ता को स्पर्श करना
C	पूर्ण देयता	III	देखभाल के कर्तव्य का उल्लंघन
D	बैटरी प्रहार	IV	बचावकर्ता की मंशा की परवाह नहीं

निम्नलिखित विकल्पों में से सही उत्तर का चयन कीजिए :

1. A-IV, B-I, C-II, D-III
2. A-III, B-I, C-IV, D-II
3. A-III, B-IV, C-I, D-II
4. A-II, B-III, C-IV, D-I

Options :

485584154473. 1
485584154474. 2
485584154475. 3
485584154476. 4

Question Number : 745 Question Id : 48558438620 Question Type : MCQ Option Shuffling : No Is Question Mandatory : No Calculator : None Response Time : N.A Think Time : N.A Minimum Instruction Time : 0

Correct Marks : 5 Wrong Marks : 1

Question Key Details :

Key	Value
Comprehension	MCQ

Match List I with List II

LIST I		LIST II	
A.	Waiver	I.	Cancellation of all or some terms of contract.
B.	Alteration	II.	Substitution of a new contract for an old contract
C.	Rescission	III.	Parties to a contract abandon their mutual rights
D.	Novation	IV.	Modification of terms of contract

Choose the correct answer from the options given below:

1. A-I, B-III, C-II, D-IV
2. A-III, B-IV, C-I, D-II
3. A-II, B-I, C-IV, D-III
4. A-IV, B-II, C-III, D-I

Options :

485584154477. 1
485584154478. 2
485584154479. 3
485584154480. 4

Question Number : 745 Question Id : 48558438620 Question Type : MCQ Option Shuffling : No Is Question Mandatory : No Calculator : None
Response Time : N.A Think Time : N.A Minimum Instruction Time : 0

Correct Marks : 5 Wrong Marks : 1

Question Key Details :

Key	Value
Comprehension	MCQ

सूची I का सूची II से मिलान कीजिए

सूची I		सूची II	
A.	छूट	I.	अनुबंध की सभी या कुछ शर्तों का निरसन
B.	रूपांतरण	II.	पुराने अनुबंध के स्थान पर नये अनुबंध का प्रतिस्थापन
C.	निरसन	III.	अनुबंध के पक्षकार अपने परस्पर अधिकार छोड़ते हैं।
D.	नवीकरण	IV.	अनुबंध की शर्तों में रूपांतरण/उपांतरण

निम्नलिखित विकल्पों में से सही उत्तर का चयन कीजिए :

1. A-I, B-III, C-II, D-IV
2. A-III, B-IV, C-I, D-II
3. A-II, B-I, C-IV, D-III
4. A-IV, B-II, C-III, D-I

Options :

485584154477. 1
485584154478. 2
485584154479. 3
485584154480. 4

Question Number : 746 Question Id : 48558438621 Question Type : MCQ Option Shuffling : No Is Question Mandatory : No Calculator : None
Response Time : N.A Think Time : N.A Minimum Instruction Time : 0

Correct Marks : 5 Wrong Marks : 1

Question Key Details :

Key	Value
Comprehension	MCQ

Read the given situation and answer the question that follows:

'X' for a period of 10 years lets out his property for use to 'Y' for a sum of Rs 50,000/- 'Y' further sub lets the property to 'Z' for 8 years. The relation between 'Y' and 'Z' is.

1. Seller and buyer
2. Lessee and sub-lessee
3. Lessor and lessee
4. Landlord and tenant

Options :

485584154481. 1
485584154482. 2
485584154483. 3
485584154484. 4

Question Number : 746 Question Id : 48558438621 Question Type : MCQ Option Shuffling : No Is Question Mandatory : No Calculator : None
Response Time : N.A Think Time : N.A Minimum Instruction Time : 0

Correct Marks : 5 Wrong Marks : 1

Question Key Details :

Key	Value
Comprehension	MCQ

प्रदत्त कथन को पढ़ें और उसके पश्चात दिए प्रश्नों का उत्तर दें:

'X' ₹50,000 रुपए की राशि के बदले अपनी संपत्ति 100 वर्षों की अवधि के लिए 'Y' को प्रदान करता है।

'Y' अगले 8 वर्षों के लिए संपत्ति 'Z' को देता है।

'Y' और 'Z' के बीच संबंध है:

1. विक्रेता और क्रेता
2. पट्टेदार और अप-पट्टेदार
3. पट्टाकर्ता और पट्टेदार
4. भूस्वामी और किरायेदार

Options :

485584154481. 1
485584154482. 2
485584154483. 3
485584154484. 4

Question Number : 747 Question Id : 48558438622 Question Type : MCQ Option Shuffling : No Is Question Mandatory : No Calculator : None
Response Time : N.A Think Time : N.A Minimum Instruction Time : 0

Correct Marks : 5 Wrong Marks : 1

Question Key Details :

Key	Value
Comprehension	MCQ

Match List I with List II

LIST I		LIST II	
A	Applies to name of product	I	Patents
B	Applies to invention	II	Geographical indications
C	Applies to literary work	III	Copyright
D	Applies to place of origin	IV	Trade Mark

Choose the correct answer from the options given below:

1. A-I, B-III, C-II, D-IV
2. A-IV, B-I, C-II, D-III
3. A-IV, B-I, C-III, D-II
4. A-III, B-II, C-IV, D-I

Options :

485584154485. 1
485584154486. 2
485584154487. 3
485584154488. 4

Question Number : 747 Question Id : 48558438622 Question Type : MCQ Option Shuffling : No Is Question Mandatory : No Calculator : None
Response Time : N.A Think Time : N.A Minimum Instruction Time : 0

Correct Marks : 5 Wrong Marks : 1

Question Key Details :

Key	Value
Comprehension	MCQ

सूची I का सूची II से मिलान कीजिए

सूची I		सूची II	
A	उत्पाद के नाम पर लागू होता है	I	पेटेंट
B	आविष्कार पर लागू होता है	II	भौगोलिक संकेतक
C	साहित्यिक कृति पर लागू होता है	III	प्रतिलिप्याधिकार
D	मूल उत्पत्ति स्थान पर लागू होता है	IV	ट्रेडमार्क

निम्नलिखित विकल्पों में से सही उत्तर का चयन कीजिए :

1. A-I, B-III, C-II, D-IV
2. A-IV, B-I, C-II, D-III
3. A-IV, B-I, C-III, D-II
4. A-III, B-II, C-IV, D-I

Options :

485584154485. 1
485584154486. 2
485584154487. 3
485584154488. 4

Question Number : 748 Question Id : 48558438623 Question Type : MCQ Option Shuffling : No Is Question Mandatory : No Calculator : None
Response Time : N.A Think Time : N.A Minimum Instruction Time : 0

Correct Marks : 5 Wrong Marks : 1

Question Key Details :

Key	Value
Comprehension	MCQ

Arrange the stages of trial in ascending order.

- A. Statement of accused
- B. Framing of charge
- C. Recording of prosecution evidence
- D. Defence evidence
- E. Final arguments

Choose the correct answer from the options given below:

- 1. B, C, A, E, D
- 2. B, C, A, D, E
- 3. B, D, C, A, E
- 4. A, B, C, D, E

Options :

- 485584154489. 1
- 485584154490. 2
- 485584154491. 3
- 485584154492. 4

Question Number : 748 Question Id : 48558438623 Question Type : MCQ Option Shuffling : No Is Question Mandatory : No Calculator : None Response Time : N.A Think Time : N.A Minimum Instruction Time : 0 Correct Marks : 5 Wrong Marks : 1

Question Key Details :

Key	Value
Comprehension	MCQ

विचारण/ट्रायल के निम्नलिखित चरणों को आरोही क्रम में व्यवस्थित करें:

- A. आरोपित का बयान
- B. आरोप तय करना
- C. अभियोजन साक्ष्य रिकॉर्ड करना
- D. बचाव पक्ष साक्ष्य
- E. अंतिम बहस

निम्नलिखित विकल्पों में से सही उत्तर का चयन करें :

- 1. B, C, A, E, D
- 2. B, C, A, D, E
- 3. B, D, C, A, E
- 4. A, B, C, D, E

Options :

- 485584154489. 1
- 485584154490. 2
- 485584154491. 3
- 485584154492. 4

Question Number : 749 Question Id : 48558438624 Question Type : MCQ Option Shuffling : No Is Question Mandatory : No Calculator : None Response Time : N.A Think Time : N.A Minimum Instruction Time : 0 Correct Marks : 5 Wrong Marks : 1

Question Key Details :

Key	Value
Comprehension	MCQ

Arrange the following events in order of their occurrence.

- A. Commission of Crime
- B. Investigation
- C. Judgement
- D. Inquiry
- E. Trial

Choose the correct answer from the options given below:

- 1. B, C, D, E, A
- 2. E, B, D, C, A
- 3. A, B, D, E, C
- 4. C, D, A, B, E

Options :

- 485584154493. 1
- 485584154494. 2
- 485584154495. 3
- 485584154496. 4

Question Number : 749 Question Id : 48558438624 Question Type : MCQ Option Shuffling : No Is Question Mandatory : No Calculator : None Response Time : N.A Think Time : N.A Minimum Instruction Time : 0

Correct Marks : 5 Wrong Marks : 1

Question Key Details :

Key	Value
Comprehension	MCQ

निम्नलिखित परिघटनाओं को उनके घटित होने के क्रम में व्यवस्थित करें।

- A. अपराध करना
- B. जाँच
- C. निर्णय
- D. पूछताछ
- E. विचारण-द्रायस

निम्नलिखित विकल्पों में से सही उत्तर का चयन करें :-

- 1. B, C, D, E, A
- 2. E, B, D, C, A
- 3. A, B, D, E, C
- 4. C, D, A, B, E

Options :

- 485584154493. 1
- 485584154494. 2
- 485584154495. 3
- 485584154496. 4

Question Number : 750 Question Id : 48558438625 Question Type : MCQ Option Shuffling : No Is Question Mandatory : No Calculator : None Response Time : N.A Think Time : N.A Minimum Instruction Time : 0

Correct Marks : 5 Wrong Marks : 1

Question Key Details :

Key	Value
Comprehension	MCQ

The aims, objectives and the guiding principles of the Constitution are stated in the:

1. Fundamental Rights
2. Preamble
3. Directive Principles of State Policy
4. Parliament

Options :

- 485584154497. 1
- 485584154498. 2
- 485584154499. 3
- 485584154500. 4

Question Number : 750 Question Id : 48558438625 Question Type : MCQ Option Shuffling : No Is Question Mandatory : No Calculator : None Response Time : N.A Think Time : N.A Minimum Instruction Time : 0 Correct Marks : 5 Wrong Marks : 1

Question Key Details :

Key	Value
Comprehension	MCQ

संविधानिक के लक्ष्य उद्देश्य और मार्गदर्शक सिद्धांत कि समे वर्णित हे:

1. मूल अधिकार
2. प्रस्तावना
3. राज्य के निति निदेशक सिद्धांत
4. संसद

Options :

- 485584154497. 1
- 485584154498. 2
- 485584154499. 3
- 485584154500. 4

Question Number : 751 Question Id : 48558438626 Question Type : MCQ Option Shuffling : No Is Question Mandatory : No Calculator : None Response Time : N.A Think Time : N.A Minimum Instruction Time : 0 Correct Marks : 5 Wrong Marks : 1

Question Key Details :

Key	Value
Comprehension	MCQ

Match List I with List II

LIST I		LIST II	
A	Prohibits human trafficking	I	Article 28
B	Providing safeguards against arrest and detention	II	Article 23
C	Provides the right to every religious denomination	III	Article 22
D	Prohibits religious instructions in educational institutions	IV	Article 26

Choose the correct answer from the options given below:

1. A-III, B-I, C-II, D-IV
2. A-II, B-IV, C-III, D-I
3. A-III, B-IV, C-II, D-I
4. A-II, B-III, C-IV, D-I

Options :

485584154501. 1
485584154502. 2
485584154503. 3
485584154504. 4

Question Number : 751 Question Id : 48558438626 Question Type : MCQ Option Shuffling : No Is Question Mandatory : No Calculator : None
Response Time : N.A Think Time : N.A Minimum Instruction Time : 0

Correct Marks : 5 Wrong Marks : 1

Question Key Details :

Key	Value
Comprehension	MCQ

सूची I का सूची II से मिलान कीजिए

सूची I		सूची II	
A	मानव दुर्व्यापार प्रतिषेध करता है	I	अनुच्छेद 28
B	गिरफ्तारी और निरुद्ध किये जाने के विरुद्ध रक्षोपाय प्रदान करता है।	II	अनुच्छेद 23
C	प्रत्येक धार्मिक पंथ को अधिकार प्रदान करता है	III	अनुच्छेद 22
D	शैक्षणिक संस्थानों में धार्मिक अनुदेशों का प्रतिषेध करता है	IV	अनुच्छेद 26

निम्नलिखित विकल्पों में से सही उत्तर का चयन कीजिए :

1. A-III, B-I, C-II, D-IV
2. A-II, B-IV, C-III, D-I
3. A-III, B-IV, C-II, D-I
4. A-II, B-III, C-IV, D-I

Options :

485584154501. 1
485584154502. 2
485584154503. 3
485584154504. 4

Question Number : 752 Question Id : 48558438627 Question Type : MCQ Option Shuffling : No Is Question Mandatory : No Calculator : None
Response Time : N.A Think Time : N.A Minimum Instruction Time : 0

Correct Marks : 5 Wrong Marks : 1

Question Key Details :

Key	Value
Comprehension	MCQ

Match List I with List II

LIST I		LIST II	
A	Fundamental Rights	I	Part XX
B	Directive principles of state policy	II	Part IV (A)
C	Amendment procedure	III	Part III
D	Fundamental duties	IV	Part IV

Choose the correct answer from the options given below:

1. A-III, B-I, C-IV, D-II
2. A-III, B-IV, C-I, D-II
3. A-III, B-IV, C-II, D-I
4. A-III, B-II, C-IV, D-I

Options :

485584154505. 1
485584154506. 2
485584154507. 3
485584154508. 4

Question Number : 752 Question Id : 48558438627 Question Type : MCQ Option Shuffling : No Is Question Mandatory : No Calculator : None

Response Time : N.A Think Time : N.A Minimum Instruction Time : 0

Correct Marks : 5 Wrong Marks : 1

Question Key Details :

Key	Value
Comprehension	MCQ

सूची I का सूची II से मिलान कीजिए

सूची I		सूची II	
A	मूल अधिकार	I	भाग XX
B	राज्य नीति के निदेशक तत्व	II	भाग IV(A)
C	संशोधन प्रक्रिया	III	भाग III
D	मूल कर्तव्य	IV	भाग IV

निम्नलिखित विकल्पों में से सही उत्तर का चयन कीजिए :

1. A-III, B-I, C-IV, D-II
2. A-III, B-IV, C-I, D-II
3. A-III, B-IV, C-II, D-I
4. A-III, B-II, C-IV, D-I

Options :

485584154505. 1
485584154506. 2
485584154507. 3
485584154508. 4

Question Number : 753 Question Id : 48558438628 Question Type : MCQ Option Shuffling : No Is Question Mandatory : No Calculator : None

Response Time : N.A Think Time : N.A Minimum Instruction Time : 0

Correct Marks : 5 Wrong Marks : 1

Question Key Details :

Key	Value
Comprehension	MCQ

Art 51-A of Constitution prescribes fundamental duties of every citizen. the total number of fundamental duties provided in this Article.

1. 7
2. 9
3. 10
4. 11

Options :

- 485584154509. 1
- 485584154510. 2
- 485584154511. 3
- 485584154512. 4

Question Number : 753 Question Id : 48558438628 Question Type : MCQ Option Shuffling : No Is Question Mandatory : No Calculator : None Response Time : N.A Think Time : N.A Minimum Instruction Time : 0

Correct Marks : 5 Wrong Marks : 1

Question Key Details :

Key	Value
Comprehension	MCQ

संविधान का अनुच्छेद 51- A प्रत्येक नागरिक के मूल कर्तव्य विहित करता है। इस अनुच्छेद में प्रदत्त मूल कर्तव्यों की कुल संख्या क्या है ?

1. 7
2. 9
3. 10
4. 11

Options :

- 485584154509. 1
- 485584154510. 2
- 485584154511. 3
- 485584154512. 4

Question Number : 754 Question Id : 48558438629 Question Type : MCQ Option Shuffling : No Is Question Mandatory : No Calculator : None Response Time : N.A Think Time : N.A Minimum Instruction Time : 0

Correct Marks : 5 Wrong Marks : 1

Question Key Details :

Key	Value
Comprehension	MCQ

Art 24 prohibits the employment of children below the age of _____ years in factories, mining and other hazardous employment.

1. 12 years
2. 18 years
3. 16 years
4. 14 years

Options :

- 485584154513. 1
- 485584154514. 2
- 485584154515. 3
- 485584154516. 4

Question Number : 754 Question Id : 48558438629 Question Type : MCQ Option Shuffling : No Is Question Mandatory : No Calculator : None

Response Time : N.A Think Time : N.A Minimum Instruction Time : 0

Correct Marks : 5 Wrong Marks : 1

Question Key Details :

Key	Value
Comprehension	MCQ

अनुच्छेद 24 कारखानों, खानों और अन्य जोखिमपूर्ण नियोजनों में _____ से कम आयु के बालकों के नियोजन/रोजगार का प्रतिषेध करता है।

1. 12 वर्ष
2. 18 वर्ष
3. 16 वर्ष
4. 14 वर्ष

Options :

- 485584154513. 1
- 485584154514. 2
- 485584154515. 3
- 485584154516. 4

Question Number : 755 Question Id : 48558438630 Question Type : MCQ Option Shuffling : No Is Question Mandatory : No Calculator : None

Response Time : N.A Think Time : N.A Minimum Instruction Time : 0

Correct Marks : 5 Wrong Marks : 1

Question Key Details :

Key	Value
Comprehension	MCQ

The Prohibition of Child Marriage Act, 2006 prescribes the marriageable age of a girl and boy as

1. 18 years and 18 years
2. 18 years and 21 years
3. 21 years and 21 years
4. 16 years and 18 years

Options :

- 485584154517. 1
- 485584154518. 2
- 485584154519. 3

485584154520.4

Question Number : 755 Question Id : 48558438630 Question Type : MCQ Option Shuffling : No Is Question Mandatory : No Calculator : None
Response Time : N.A Think Time : N.A Minimum Instruction Time : 0
Correct Marks : 5 Wrong Marks : 1

Question Key Details :

Key	Value
Comprehension	MCQ

बाल विवाह प्रतिषेध अधिनियम 2006 लड़की और लड़के की विवाह योग्य कितनी आयु विहित करता है :

1. 18 वर्ष और 18 वर्ष
2. 18 वर्ष और 21 वर्ष
3. 21 वर्ष और 21 वर्ष
4. 16 वर्ष और 18 वर्ष

Options :

485584154517. 1
485584154518. 2
485584154519. 3
485584154520. 4

Question Number : 756 Question Id : 48558438631 Question Type : MCQ Option Shuffling : No Is Question Mandatory : No Calculator : None
Response Time : N.A Think Time : N.A Minimum Instruction Time : 0
Correct Marks : 5 Wrong Marks : 1

Question Key Details :

Key	Value
Comprehension	MCQ

Which of the following techniques is not covered by ADR?

1. Lok Adalat
2. Conciliation
3. Pre-litigation mediation
4. Arbitration

Options :

485584154521. 1
485584154522. 2
485584154523. 3
485584154524. 4

Question Number : 756 Question Id : 48558438631 Question Type : MCQ Option Shuffling : No Is Question Mandatory : No Calculator : None
Response Time : N.A Think Time : N.A Minimum Instruction Time : 0
Correct Marks : 5 Wrong Marks : 1

Question Key Details :

Key	Value
Comprehension	MCQ

निम्नलिखित में से कौनसी तकनीक/मुक्ति ऐ डी आर द्वारा आच्छादित नहीं है ?

1. लौग अदालत
2. सुलह
3. वादपूर्व मध्यस्थता
4. माध्यस्थम

Options :

485584154521. 1
485584154522. 2
485584154523. 3
485584154524. 4

Question Number : 757 Question Id : 48558438632 Question Type : MCQ Option Shuffling : No Is Question Mandatory : No Calculator : None Response Time : N.A Think Time : N.A Minimum Instruction Time : 0

Correct Marks : 5 Wrong Marks : 1

Question Key Details :

Key	Value
Comprehension	MCQ

Arrange the following in the correct sequence the appointment of a Judge of the Supreme Court of India.

- A. Chief Justice of India sends his recommendation to the Union Minister of Law and Justice
- B. Prime Minister Advices the President
- C. Chief Justice of India consults four senior most Judges of the Supreme Court
- D. Union Minister of Law and Justice forwards the same to the Prime Minister

Choose the correct answer from the options given below:

1. A, B, C, D
2. B, A, D, C
3. C, A, D, B
4. D, C, B, A

Options :

485584154525. 1
485584154526. 2
485584154527. 3
485584154528. 4

Question Number : 757 Question Id : 48558438632 Question Type : MCQ Option Shuffling : No Is Question Mandatory : No Calculator : None Response Time : N.A Think Time : N.A Minimum Instruction Time : 0

Correct Marks : 5 Wrong Marks : 1

Question Key Details :

Key	Value
Comprehension	MCQ

भारत के उच्चतम न्यायाधीश की नियुक्ति के संबंध में निम्नलिखित को सही अनुक्रम में व्यवस्थित करें:

- A. भारत का प्रधान न्यायाधीश केन्द्रीय विधि और न्याय मंत्री को अपनी सिफारिश में जाता है।
- B. प्रधानमंत्री, राष्ट्रपति को सलाह देता है।
- C. भारत का प्रधान न्यायाधीश उच्चतम न्यायलय के चार वरिष्ठतम न्यायाधीशों से परामर्श करता है।
- D. केन्द्रीय विधि और न्याय मंत्री इसे प्रधानमंत्री को अग्रपिहित करता है।

निम्नलिखित विकल्पों में से सही उत्तर का चयन करें:

1. A, B, C, D
2. B, A, D, C
3. C, A, D, B
4. D, C, B, A

Options :

485584154525. 1
485584154526. 2
485584154527. 3
485584154528. 4

Question Number : 758 Question Id : 48558438633 Question Type : MCQ Option Shuffling : No Is Question Mandatory : No Calculator : None

Response Time : N.A Think Time : N.A Minimum Instruction Time : 0

Correct Marks : 5 Wrong Marks : 1

Question Key Details :

Key	Value
Comprehension	MCQ

Who is the first legal officer of India?

1. Solicitor-General of India
2. Attorney General of India
3. Advocate General of a state
4. Chief Justice of India

Options :

485584154529. 1
485584154530. 2
485584154531. 3
485584154532. 4

Question Number : 758 Question Id : 48558438633 Question Type : MCQ Option Shuffling : No Is Question Mandatory : No Calculator : None

Response Time : N.A Think Time : N.A Minimum Instruction Time : 0

Correct Marks : 5 Wrong Marks : 1

Question Key Details :

Key	Value
Comprehension	MCQ

भारत का प्रथम विधि अधिकारी कौन है ?

1. भारत का सोलिस्टर जनरल
2. भारत का महान्यायवादी
3. राज्य का महाधिवक्ता
4. भारत का प्रधान न्यायाधीश

Options :

485584154529. 1
485584154530. 2
485584154531. 3
485584154532. 4

Question Number : 759 Question Id : 48558438634 Question Type : MCQ Option Shuffling : No Is Question Mandatory : No Calculator : None
Response Time : N.A Think Time : N.A Minimum Instruction Time : 0

Correct Marks : 5 Wrong Marks : 1

Question Key Details :

Key	Value
Comprehension	MCQ

In which case, the Supreme Court of India used the provisions of the CEDAW?

1. Keshavanda Bharti vs State of Kerala
2. Magan Bhai Patel vs U.O.I
3. Sheela Barse vs Secretary, Children's Aid Society
4. Vishaka vs. State of Rajasthan

Options :

485584154533. 1
485584154534. 2
485584154535. 3
485584154536. 4

Question Number : 759 Question Id : 48558438634 Question Type : MCQ Option Shuffling : No Is Question Mandatory : No Calculator : None
Response Time : N.A Think Time : N.A Minimum Instruction Time : 0

Correct Marks : 5 Wrong Marks : 1

Question Key Details :

Key	Value
Comprehension	MCQ

किस वाद में, भारत के उच्चतम न्यायालय ने CEDAW के उपबंधों का प्रयोग किया?

1. केशवानंद भारती बनाम केरल राज्य
2. मगन भाई पटेल बनाम भारत संघ
3. शीला बरसे बनाम सचिव, चिल्ड्रन ऐंड सोसाइटी
4. विशाखा बनाम राजस्थान राज्य

Options :

485584154533. 1
485584154534. 2
485584154535. 3
485584154536. 4

Question Number : 760 Question Id : 48558438635 Question Type : MCQ Option Shuffling : No Is Question Mandatory : No Calculator : None
Response Time : N.A Think Time : N.A Minimum Instruction Time : 0
Correct Marks : 5 Wrong Marks : 1

Question Key Details :

Key	Value
Comprehension	MCQ

Which of the following are the sources of international law?

- A. General principles of law recognised by civilized nations
- B. International customs
- C. International Conventions
- D. Judicial decision and teaching of highly qualified publicists
- E. Survey of society

Choose the correct answer from the options given below:

- 1. B, C, D, E only
- 2. A, B, C, D only
- 3. A, C, E only
- 4. B and D only

Options :

- 485584154537. 1
- 485584154538. 2
- 485584154539. 3
- 485584154540. 4

Question Number : 760 Question Id : 48558438635 Question Type : MCQ Option Shuffling : No Is Question Mandatory : No Calculator : None
Response Time : N.A Think Time : N.A Minimum Instruction Time : 0

Correct Marks : 5 Wrong Marks : 1

Question Key Details :

Key	Value
Comprehension	MCQ

निम्नलिखित में से कौनसे अंतर्राष्ट्रीय विधि के स्रोत हैं?

- A. सभ्य राष्ट्रों द्वारा मान्यताप्राप्त विधि के सामान्य सिद्धांत
- B. अंतर्राष्ट्रीय रिवाज
- C. अंतर्राष्ट्रीय अभिसमय
- D. उच्चतम योग्य प्रचारकों के न्यायिक निर्णय और शिक्षाएं
- E. समाज का सर्वेक्षण

निम्नलिखित में से सही उत्तर का चयन करें:-

- 1. केवल B, C, D, E
- 2. केवल A, B, C, D
- 3. केवल A, C, E
- 4. केवल B और D

Options :

- 485584154537. 1
- 485584154538. 2
- 485584154539. 3

Question Number : 761 Question Id : 48558438636 Question Type : MCQ Option Shuffling : No Is Question Mandatory : No Calculator : None
Response Time : N.A Think Time : N.A Minimum Instruction Time : 0

Correct Marks : 5 Wrong Marks : 1

Question Key Details :

Key	Value
Comprehension	MCQ

Which multilateral treaty is also referred as Vienna Convention?

1. UNIDROIT
2. UNCITRAL
3. ICSID
4. CISG

Options :

485584154541. 1
485584154542. 2
485584154543. 3
485584154544. 4

Question Number : 761 Question Id : 48558438636 Question Type : MCQ Option Shuffling : No Is Question Mandatory : No Calculator : None
Response Time : N.A Think Time : N.A Minimum Instruction Time : 0

Correct Marks : 5 Wrong Marks : 1

Question Key Details :

Key	Value
Comprehension	MCQ

किस बहुपक्षीय संधि को वियना अभिसमय भी कहा जाता है ?

1. UNIDROIT
2. UNCITRAL
3. ICSID
4. CISG

Options :

485584154541. 1
485584154542. 2
485584154543. 3
485584154544. 4

Question Number : 762 Question Id : 48558438637 Question Type : MCQ Option Shuffling : No Is Question Mandatory : No Calculator : None
Response Time : N.A Think Time : N.A Minimum Instruction Time : 0

Correct Marks : 5 Wrong Marks : 1

Question Key Details :

Key	Value
Comprehension	MCQ

Sources of International Law which are mentioned in the Statute of the International Court of Justice are contained in.

1. Article 38(2)
2. Article 38(1)
3. Article 38(3)
4. Article 38(4)

Options :

- 485584154545. 1
- 485584154546. 2
- 485584154547. 3
- 485584154548. 4

Question Number : 762 Question Id : 48558438637 Question Type : MCQ Option Shuffling : No Is Question Mandatory : No Calculator : None Response Time : N.A Think Time : N.A Minimum Instruction Time : 0 Correct Marks : 5 Wrong Marks : 1

Question Key Details :

Key	Value
Comprehension	MCQ

अंतराष्ट्रीय न्यायलय की सविधि में उल्लिखित अंतराष्ट्रीय विधि के स्रोत किस अनुच्छेद में अंतर्विष्ट है

1. अनुच्छेद 38(2)
2. अनुच्छेद 38(1)
3. अनुच्छेद 38(3)
4. अनुच्छेद 38(4)

Options :

- 485584154545. 1
- 485584154546. 2
- 485584154547. 3
- 485584154548. 4

Question Number : 763 Question Id : 48558438638 Question Type : MCQ Option Shuffling : No Is Question Mandatory : No Calculator : None Response Time : N.A Think Time : N.A Minimum Instruction Time : 0

Correct Marks : 5 Wrong Marks : 1

Question Key Details :

Key	Value
Comprehension	MCQ

The President of India may seek advisory opinion from which court.

1. The High Court
2. The Supreme Court of India
3. The District and Session Court
4. The Privy Council

Options :

- 485584154549. 1
- 485584154550. 2
- 485584154551. 3

485584154552. 4

Question Number : 763 Question Id : 48558438638 Question Type : MCQ Option Shuffling : No Is Question Mandatory : No Calculator : None
Response Time : N.A Think Time : N.A Minimum Instruction Time : 0
Correct Marks : 5 Wrong Marks : 1
Question Key Details :

Key	Value
Comprehension	MCQ

भारत का राष्ट्रिय किस न्यायलय से परामर्शकारी राय/मत ले सकता है ?

1. उच्च न्यायलय
2. भारत का उच्चतम न्यायलय
3. जिला और सत्र न्यायलय
4. प्रिती परिषद

Options :

485584154549. 1
485584154550. 2
485584154551. 3
485584154552. 4

Question Number : 764 Question Id : 48558438639 Question Type : MCQ Option Shuffling : No Is Question Mandatory : No Calculator : None
Response Time : N.A Think Time : N.A Minimum Instruction Time : 0
Correct Marks : 5 Wrong Marks : 1
Question Key Details :

Key	Value
Comprehension	MCQ

The qualification required for appointment as an Advocate General is similar to _____.

1. Supreme Court Judge
2. District Court Judge
3. High Court Judge
4. Governor

Options :

485584154553. 1
485584154554. 2
485584154555. 3
485584154556. 4

Question Number : 764 Question Id : 48558438639 Question Type : MCQ Option Shuffling : No Is Question Mandatory : No Calculator : None
Response Time : N.A Think Time : N.A Minimum Instruction Time : 0
Correct Marks : 5 Wrong Marks : 1
Question Key Details :

Key	Value
Comprehension	MCQ

महाधिवक्ता के रूप में नियुक्ति के लिए आवश्यक आर्हताएँ _____ के समान हैं।

1. उच्चतम न्यायालय न्यायाधीश
2. जिला न्यायालय न्यायाधीश
3. उच्च न्यायालय न्यायाधीश
4. राज्यपाल

Options :

485584154553. 1
485584154554. 2
485584154555. 3
485584154556. 4

Question Number : 765 Question Id : 48558438640 Question Type : MCQ Option Shuffling : No Is Question Mandatory : No Calculator : None Response Time : N.A Think Time : N.A Minimum Instruction Time : 0 Correct Marks : 5 Wrong Marks : 1 Question Key Details :

Key	Value
Comprehension	MCQ

The impeachment process in the history of Indian judiciary has been successful only once. Identify the justice impeached in 2011.

1. Justice V Ramaswamy
2. Justice P.N. Bhagwati
3. Justice Krishna Iyer
4. Justice Soumitra Sen

Options :

485584154557. 1
485584154558. 2
485584154559. 3
485584154560. 4

Question Number : 765 Question Id : 48558438640 Question Type : MCQ Option Shuffling : No Is Question Mandatory : No Calculator : None Response Time : N.A Think Time : N.A Minimum Instruction Time : 0 Correct Marks : 5 Wrong Marks : 1 Question Key Details :

Key	Value
Comprehension	MCQ

भारतीय न्यायपालिका के इतिहास में महाभियोग प्रक्रिया केवल एक बार सफल रही है। 2011 में किस न्यायाधीश पर महाभियोग लगाया गया था।

1. न्यायाधीश टी रामास्वामी
2. न्यायाधीश पी.एन भगवती
3. न्यायाधीश कृष्णा अय्यर
4. न्यायाधीश सौमित्र सेन

Options :

485584154557. 1
485584154558. 2

485584154559. 3
485584154560. 4

Question Number : 766 Question Id : 48558438641 Question Type : MCQ Option Shuffling : No Is Question Mandatory : No Calculator : None
Response Time : N.A Think Time : N.A Minimum Instruction Time : 0
Correct Marks : 5 Wrong Marks : 1

Question Key Details :

Key	Value
Comprehension	MCQ

The Madras High Court in responses to a PIL filed by A.K Balaji permitted _____.

1. Foreign law firms to set up liaison offices in India
2. Judicial clerks to sit in court hearing
3. Foreign lawyers to practice in India on a "fly in and fly out" basis
4. Foreign lawyers to undertake public policy making

Options :

485584154561. 1
485584154562. 2
485584154563. 3
485584154564. 4

Question Number : 766 Question Id : 48558438641 Question Type : MCQ Option Shuffling : No Is Question Mandatory : No Calculator : None
Response Time : N.A Think Time : N.A Minimum Instruction Time : 0
Correct Marks : 5 Wrong Marks : 1

Question Key Details :

Key	Value
Comprehension	MCQ

एक बालाजी द्वारा दायर पीआईई एल के प्रयुक्त में मद्रास उच्च न्यायलय ने _____ की अनुमति दी।

1. विदेश विधि फर्मों को भारत में संपर्क कार्यालय स्थापित करने
2. न्यायिक लिपिकों के न्यायलय सुनवाई में बैठने
3. "आओ और जाओ" आधार पर विदेशी वकीलों को भारत में विधि व्यवसाय
4. विदेशी वकीलों को लोपक नीति निर्णय लेने

Options :

485584154561. 1
485584154562. 2
485584154563. 3
485584154564. 4

Question Number : 767 Question Id : 48558438642 Question Type : MCQ Option Shuffling : No Is Question Mandatory : No Calculator : None
Response Time : N.A Think Time : N.A Minimum Instruction Time : 0
Correct Marks : 5 Wrong Marks : 1

Question Key Details :

Key	Value
Comprehension	MCQ

Which of the following is not a function of the Bar Council of India?

- A. Promote law reform
- B. Advising on issues pertaining commercial transaction
- C. Protecting interests of advocates
- D. Scrutinize personal injury ads
- E. Smooth administration of courts

Choose the correct answer from the options given below:

- 1. A, B, C
- 2. A, D, B
- 3. C, D, A
- 4. B, D, E

Options :

- 485584154565. 1
- 485584154566. 2
- 485584154567. 3
- 485584154568. 4

Question Number : 767 Question Id : 48558438642 Question Type : MCQ Option Shuffling : No Is Question Mandatory : No Calculator : None Response Time : N.A Think Time : N.A Minimum Instruction Time : 0 Correct Marks : 5 Wrong Marks : 1

Question Key Details :

Key	Value
Comprehension	MCQ

निम्नलिखित में से कौन सा बार काउंसिल ऑफ इंडिया का कार्य नहीं है ?

- A. विधि सुधार को बढ़ावा देना
- B. वाणिज्यिक अंतरण से सम्बन्धी मुद्दों पर सलाह देना
- C. अधिवक्ताओं के हितों का संरक्षण करना
- D. व्यक्तिगत क्षति विज्ञापनों की जाँच
- E. न्यायालयों का सुगम प्रशासन

निम्नलिखित विकल्पों में से सही उत्तर का चयन करें :-

- 1. A, B, C
- 2. A, D, B
- 3. C, D, A
- 4. B, D, E

Options :

- 485584154565. 1
- 485584154566. 2
- 485584154567. 3
- 485584154568. 4

Question Number : 768 Question Id : 48558438643 Question Type : MCQ Option Shuffling : No Is Question Mandatory : No Calculator : None Response Time : N.A Think Time : N.A Minimum Instruction Time : 0 Correct Marks : 5 Wrong Marks : 1

Question Key Details :

Key	Value
Comprehension	MCQ

The right of advocates to _____ clients has been a controversial issue in the field of legal ethics.

1. Represent
2. Accept briefs from
3. Charge fees from
4. Advertise their services or Solicit

Options :

485584154569. 1
485584154570. 2
485584154571. 3
485584154572. 4

Question Number : 768 Question Id : 48558438643 Question Type : MCQ Option Shuffling : No Is Question Mandatory : No Calculator : None Response Time : N.A Think Time : N.A Minimum Instruction Time : 0 Correct Marks : 5 Wrong Marks : 1

Question Key Details :

Key	Value
Comprehension	MCQ

_____ करने का ग्राहकों (क्लाइंट)के प्रति अधिवक्ताओं का अधिकार विधि नैतिकता के क्षेत्र में विवादित मुद्दा रहा है ।

1. प्रतिनिधित्व
2. जानकारी प्राप्त
3. शुल्क प्राप्त
4. अपनी सेवार्य विज्ञापित करने या मांगने

Options :

485584154569. 1
485584154570. 2
485584154571. 3
485584154572. 4

Question Number : 769 Question Id : 48558438644 Question Type : MCQ Option Shuffling : No Is Question Mandatory : No Calculator : None Response Time : N.A Think Time : N.A Minimum Instruction Time : 0 Correct Marks : 5 Wrong Marks : 1

Question Key Details :

Key	Value
Comprehension	MCQ

The Designation of an advocate as a senior advocate is the responsibility of _____ .

- A. Supreme Court
- B. High Court
- C. Bar Council of India
- D. Legal Education Committee
- E. Attorney-General

Choose the correct answer from the options given below:

- 1. B, C only
- 2. A, E only
- 3. A, B only
- 4. B, D only

Options :

- 485584154573. 1
- 485584154574. 2
- 485584154575. 3
- 485584154576. 4

Question Number : 769 Question Id : 48558438644 Question Type : MCQ Option Shuffling : No Is Question Mandatory : No Calculator : None Response Time : N.A Think Time : N.A Minimum Instruction Time : 0

Correct Marks : 5 Wrong Marks : 1

Question Key Details :

Key	Value
Comprehension	MCQ

किसी अधिवक्ता को वरिष्ठ अधिवक्ता के रूप में पदाविहित करने की जिम्मेदारी _____ की है।

- A. उच्चतम न्यायालय
- B. उच्च न्यायालय
- C. बार काउंसिल ऑफ इंडिया
- D. विधिक शिक्षा समिति
- E. महान्यायाधीश

निम्नलिखित विकल्पों में से सही उत्तर का चयन करें:

- 1. केवल B, C
- 2. केवल A, E
- 3. केवल A, B
- 4. केवल B, D

Options :

- 485584154573. 1
- 485584154574. 2
- 485584154575. 3
- 485584154576. 4

Question Number : 770 Question Id : 48558438645 Question Type : MCQ Option Shuffling : No Is Question Mandatory : No Calculator : None Response Time : N.A Think Time : N.A Minimum Instruction Time : 0

Correct Marks : 5 Wrong Marks : 1

Question Key Details :

Key	Value
Comprehension	MCQ

What is permissible for an advocate to publish on website?

- A. Name of advocates or firm
- B. Amount of fees for different cases
- C. Past achievements of advocated firm
- D. Contact details
- E. Details of enrolment with Bar

Choose the correct answer from the options given below:

- 1. A, B, C, E only
- 2. A, D, E only
- 3. A, D only
- 4. A, C, D only

Options :

- 485584154577. 1
- 485584154578. 2
- 485584154579. 3
- 485584154580. 4

Question Number : 770 Question Id : 48558438645 Question Type : MCQ Option Shuffling : No Is Question Mandatory : No Calculator : None Response Time : N.A Think Time : N.A Minimum Instruction Time : 0 Correct Marks : 5 Wrong Marks : 1

Question Key Details :

Key	Value
Comprehension	MCQ

किसी अधिवक्ता को वेबसाइट पर क्या प्रकाशित करने की अनुमति है ?

- A. अधिवक्ता या फर्म का नाम
- B. विभिन्न दावों के लिए फीस की राशि
- C. अधिवक्ता फर्म की पुरानी उपलब्धियां
- D. सम्पर्क विवरण
- E. बार से नामांकन का विवरण

निम्नलिखित विकल्पों में से सही उत्तर का चयन करें :-

- 1. केवल A, B, C, E
- 2. केवल A, D, E
- 3. केवल A, D
- 4. केवल A, C, D

Options :

- 485584154577. 1
- 485584154578. 2
- 485584154579. 3
- 485584154580. 4

Question Number : 771 Question Id : 48558438646 Question Type : MCQ Option Shuffling : No Is Question Mandatory : No Calculator : None Response Time : N.A Think Time : N.A Minimum Instruction Time : 0

Correct Marks : 5 Wrong Marks : 1

Question Key Details :

Key	Value
Comprehension	MCQ

Which of the following is not a duty of an advocate?

1. To act in a dignified manner
2. To respect the court
3. Appear for clients adopting unfair means
4. Not to act illegal manner towards opposition

Options :

- 485584154581. 1
- 485584154582. 2
- 485584154583. 3
- 485584154584. 4

Question Number : 771 Question Id : 48558438646 Question Type : MCQ Option Shuffling : No Is Question Mandatory : No Calculator : None Response Time : N.A Think Time : N.A Minimum Instruction Time : 0 Correct Marks : 5 Wrong Marks : 1

Question Key Details :

Key	Value
Comprehension	MCQ

निम्नलिखित में से कौन सा किसी अधिवक्ता का कर्तव्य नहीं है ?

1. गरिमा पूर्ण रीति से व्यवहार करना
2. न्यायालय का सम्मान करना
3. अनुचित साधन अपनाने वाले ग्राहकों(क्लाइंट्स) की पेरवी करना
4. विरोधी पक्ष के प्रति अविधिक रीति से व्यवहार करना।

Options :

- 485584154581. 1
- 485584154582. 2
- 485584154583. 3
- 485584154584. 4

Question Number : 772 Question Id : 48558438647 Question Type : MCQ Option Shuffling : No Is Question Mandatory : No Calculator : None Response Time : N.A Think Time : N.A Minimum Instruction Time : 0

Correct Marks : 5 Wrong Marks : 1

Question Key Details :

Key	Value
Comprehension	MCQ

In Criminal cases, prosecution is initiated by the state and when legal aid is provided to the accused, how are the expenses managed?

1. State funds the accused's lawyer and accused pays nominal fee to prosecution lawyer
2. State funds the prosecution and accused funds his own lawyer
3. Expenditure of both parties is managed by the State
4. Expenditure of both parties is managed by the accused.

Options :

- 485584154585. 1
- 485584154586. 2
- 485584154587. 3
- 485584154588. 4

Question Number : 772 Question Id : 48558438647 Question Type : MCQ Option Shuffling : No Is Question Mandatory : No Calculator : None
Response Time : N.A Think Time : N.A Minimum Instruction Time : 0
Correct Marks : 5 Wrong Marks : 1
Question Key Details :

Key	Value
Comprehension	MCQ

आपराधिक मामलों में जब राज्यों द्वारा अभियोजन आरम्भ किया जाता है और आरोपित को विधिक सहायता प्रदान की जाती है .तो खर्च कैसे प्रबंधित किया जाते है ?

1. राज्य आरोपित के वकील को भुगतान करता है और आरोपित नाममात्र की फीस अभियोजन वकील को देता है।
2. राज्य अभियोजन को भुगतान करता है और आरोपित अपने वकील को भुगतान करता है
3. दोनों पक्षों के व्यय ,राज्य संभालता है
4. दोनों पक्षों के व्यय ,आरोपित संभालता है

Options :

- 485584154585. 1
- 485584154586. 2
- 485584154587. 3
- 485584154588. 4

Question Number : 773 Question Id : 48558438648 Question Type : MCQ Option Shuffling : No Is Question Mandatory : No Calculator : None
Response Time : N.A Think Time : N.A Minimum Instruction Time : 0
Correct Marks : 5 Wrong Marks : 1

Question Key Details :

Key	Value
Comprehension	MCQ

Which of the following are not included in pre litigation legal services?

1. Legal Education
2. Legal Advice
3. Legal Awareness
4. Filing of Suit

Options :

- 485584154589. 1
- 485584154590. 2
- 485584154591. 3
- 485584154592. 4

Question Number : 773 Question Id : 48558438648 Question Type : MCQ Option Shuffling : No Is Question Mandatory : No Calculator : None
Response Time : N.A Think Time : N.A Minimum Instruction Time : 0
Correct Marks : 5 Wrong Marks : 1

Question Key Details :

Key	Value
Comprehension	MCQ

निम्नलिखित में से कौनसी पूर्ववादी विधिक सेवाओं में सम्मिलित नहीं है ?

1. विधिक शिक्षा
2. विधिक परामर्श
3. विधिक जागरूकता
4. वाद दायर करना

Options :

485584154589. 1
485584154590. 2
485584154591. 3
485584154592. 4

Question Number : 774 Question Id : 48558438649 Question Type : MCQ Option Shuffling : No Is Question Mandatory : No Calculator : None Response Time : N.A Think Time : N.A Minimum Instruction Time : 0

Correct Marks : 5 Wrong Marks : 1

Question Key Details :

Key	Value
Comprehension	MCQ

NALSA Regulation 2010 deals with payment of fees for panel lawyers.

1. Every month
2. Every year
3. On completion of proceedings
4. On completion of term of empanelment

Options :

485584154593. 1
485584154594. 2
485584154595. 3
485584154596. 4

Question Number : 774 Question Id : 48558438649 Question Type : MCQ Option Shuffling : No Is Question Mandatory : No Calculator : None Response Time : N.A Think Time : N.A Minimum Instruction Time : 0

Correct Marks : 5 Wrong Marks : 1

Question Key Details :

Key	Value
Comprehension	MCQ

नालसा विनियम 2010 पैनल वकीलों के लिए फीस के कब भुगतान से संबंधित है ?

1. प्रत्येक माह
2. प्रत्येक वर्ष
3. कार्यवाहियां पूर्ण होने पर
4. सूचीबद्धता अवधि पूर्ण होने पर

Options :

485584154593. 1
485584154594. 2
485584154595. 3
485584154596. 4

Question Number : 775 Question Id : 48558438650 Question Type : MCQ Option Shuffling : No Is Question Mandatory : No Calculator : None
Response Time : N.A Think Time : N.A Minimum Instruction Time : 0

Correct Marks : 5 Wrong Marks : 1

Question Key Details :

Key	Value
Comprehension	MCQ

Which provisions of the Legal Services Authorities Act deals with the criteria of eligibility to the legal services.

1. Sec 10 and 11
2. Sec 12 and 13
3. Sec 14 and 15
4. Sec 16 and 17

Options :

485584154597. 1
485584154598. 2
485584154599. 3
485584154600. 4

Question Number : 775 Question Id : 48558438650 Question Type : MCQ Option Shuffling : No Is Question Mandatory : No Calculator : None
Response Time : N.A Think Time : N.A Minimum Instruction Time : 0

Correct Marks : 5 Wrong Marks : 1

Question Key Details :

Key	Value
Comprehension	MCQ

विधिक सेवाएं प्राधिकरण अधिनियम का कौन सा उपबंध विधिक सेवाओं की योग्यता की अर्हता से संबंधित है।

1. धारा 10 और 11
2. धारा 12 और 13
3. धारा 14 और 15
4. धारा 16 और 17

Options :

485584154597. 1
485584154598. 2
485584154599. 3
485584154600. 4

Sub-Section Number : 2
Sub-Section Id : 4855842944
Question Shuffling Allowed : No
Is Section Default? : null

Question Number : 776 Question Id : 48558438651 Question Type : MCQ Option Shuffling : No Is Question Mandatory : No Calculator : None
Response Time : N.A Think Time : N.A Minimum Instruction Time : 0

Correct Marks : 5 Wrong Marks : 1

Question Key Details :

Key	Value
Comprehension	Comp1

Courts in India were established to have in place a uniform legal system on the lines of the English Courts. However, even before the advent of such formalistic models, the system was characterised by the use of non-adversarial techniques of adjudication of legal disputes. It has witnessed the flourishing of specialised tribunals such as Kula, Shreni and Puga. These institutions are dominated with a neutral third party seeking to identify the underlining needs and concerns of the parties in dispute.

Which age of India witnessed the specialized tribunals such as Kula Shreni and Puga?

1. Modern Age
2. Medieval Age
3. Pre-Vedic Age
4. Vedic Age

Options :

485584154601. 1
485584154602. 2
485584154603. 3
485584154604. 4

Question Number : 776 Question Id : 48558438651 Question Type : MCQ Option Shuffling : No Is Question Mandatory : No Calculator : None Response Time : N.A Think Time : N.A Minimum Instruction Time : 0

Correct Marks : 5 Wrong Marks : 1

Question Key Details :

Key	Value
Comprehension	Comp1

निम्नलिखित पैराग्राफ पढ़ें और प्रश्नों का उत्तर दें।

भारत में स्थापित न्यायालय अंग्रेजी न्यायालयों जैसे ही एक समान विधिक तंत्र वाले थे। हालांकि, ऐसे औपचारिक मॉडलों के प्रादुर्भाव से पहले विधिक विवादों के अधिन्यायन के लिए गैर विरोधात्मक तकनीकों का उपयोग किया जाता था। कुल, श्रेणी और पूग जैसे विशेषीकृत अधिकरण देखे गए थे। इन संस्थानों में तटस्थ तृतीय पक्ष का प्रभुत्व था, जो विवाद में संलग्न पक्षकारों की अन्तर्निहित आवश्यकताओं और चिंताओं की पहचान करने का आशय रखते थे।

भारत के किस युग में कुल श्रेणी और पूग जैसे विशेषीकृत अधिकरणों को देखा गया था?

1. आधुनिक युग
2. मध्यकालीन युग
3. पूर्व - वैदिक युग
4. वैदिक युग

Options :

485584154601. 1
485584154602. 2
485584154603. 3
485584154604. 4

Question Number : 777 Question Id : 48558438652 Question Type : MCQ Option Shuffling : No Is Question Mandatory : No Calculator : None Response Time : N.A Think Time : N.A Minimum Instruction Time : 0

Correct Marks : 5 Wrong Marks : 1

Question Key Details :

Key	Value
-----	-------

Courts in India were established to have in place a uniform legal system on the lines of the English Courts. However, even before the advent of such formalistic models, the system was characterised by the use of non-adversarial techniques of adjudication of legal disputes. It has witnessed the flourishing of specialised tribunals such as Kula, Shreni and Puga. These institutions are dominated with a neutral third party seeking to identify the underlining needs and concerns of the parties in dispute.

What kind of specialised tribunals used to handle disputes of family, community, tribe caste, races etc.

1. Puga
2. Kula
3. Shreni
4. Panch

Options :

485584154605. 1

485584154606. 2

485584154607. 3

485584154608. 4

Question Number : 777 Question Id : 48558438652 Question Type : MCQ Option Shuffling : No Is Question Mandatory : No Calculator : None Response Time : N.A Think Time : N.A Minimum Instruction Time : 0

Correct Marks : 5 Wrong Marks : 1

Question Key Details :

Key	Value
Comprehension	Comp1

निम्नलिखित पैराग्राफ पढ़ें और प्रश्नों का उत्तर दें।

भारत में स्थापित न्यायालय अंग्रेजी न्यायालयों जैसे ही एक समान विधिक तंत्र वाले थे। हालांकि, ऐसे औपचारिक मॉडलों के प्रादुर्भाव से पहले विधिक विवादों के अधिन्यायन के लिए गैर विरोधात्मक तकनीकों का उपयोग किया जाता था। कुल, श्रेणी और पूग जैसे विशेषीकृत अधिकरण देखे गए थे। इन संस्थानों में तटस्थ तृतीय पक्ष का प्रभुत्व था, जो विवाद में संलग्न पक्षकारों की अन्तर्निहित आवश्यकताओं और चिंताओं की पहचान करने का आशय रखते थे।

किस प्रकार के विशेषीकृत अधिकरण परिवार, समुदाय, जनजाति, जाति, नस्लों आदि के विवाद संभालते थे?

1. पूग
2. कुल
3. श्रेणी
4. पंच

Options :

485584154605. 1

485584154606. 2

485584154607. 3

485584154608. 4

Question Number : 778 Question Id : 48558438653 Question Type : MCQ Option Shuffling : No Is Question Mandatory : No Calculator : None Response Time : N.A Think Time : N.A Minimum Instruction Time : 0

Correct Marks : 5 Wrong Marks : 1

Question Key Details :

Key	Value
-----	-------

Courts in India were established to have in place a uniform legal system on the lines of the English Courts. However, even before the advent of such formalistic models, the system was characterised by the use of non-adversarial techniques of adjudication of legal disputes. It has witnessed the flourishing of specialised tribunals such as Kula, Shreni and Puga. These institutions are dominated with a neutral third party seeking to identify the underlining needs and concerns of the parties in dispute.

Which among the following is not an Alternative Dispute Resolution Mechanism?

1. Negotiation
2. Lok Adalat
3. Litigation
4. Conciliation

Options :

485584154609. 1
485584154610. 2
485584154611. 3
485584154612. 4

Question Number : 778 Question Id : 48558438653 Question Type : MCQ Option Shuffling : No Is Question Mandatory : No Calculator : None
Response Time : N.A Think Time : N.A Minimum Instruction Time : 0

Correct Marks : 5 Wrong Marks : 1

Question Key Details :

Key	Value
Comprehension	Comp1

निम्नलिखित पैराग्राफ पढ़ें और प्रश्नों का उत्तर दें।

भारत में स्थापित न्यायालय अंग्रेजी न्यायालयों जैसे ही एक समान विधिक तंत्र वाले थे। हालांकि, ऐसे औपचारिक मॉडलों के प्रादुर्भाव से पहले विधिक विवादों के अधिन्यायन के लिए गैर विरोधात्मक तकनीकों का उपयोग किया जाता था। कुल, श्रेणी और पूग जैसे विशेषीकृत अधिकरण देखे गए थे। इन संस्थानों में तटस्थ तृतीय पक्ष का प्रभुत्व था, जो विवाद में संलग्न पक्षकारों की अन्तर्निहित आवश्यकताओं और चिंताओं की पहचान करने का आशय रखते थे।

निम्नलिखित में से कौन सी एक वैकल्पिक विवाद समाधान प्रणाली नहीं है?

1. बातचीत /विमर्श
2. लोक अदालत
3. वाद
4. सुलह

Options :

485584154609. 1
485584154610. 2
485584154611. 3
485584154612. 4

Question Number : 779 Question Id : 48558438654 Question Type : MCQ Option Shuffling : No Is Question Mandatory : No Calculator : None
Response Time : N.A Think Time : N.A Minimum Instruction Time : 0

Correct Marks : 5 Wrong Marks : 1

Question Key Details :

Key	Value
Comprehension	Comp1

Courts in India were established to have in place a uniform legal system on the lines of the English Courts. However, even before the advent of such formalistic models, the system was characterised by the use of non-adversarial techniques of adjudication of legal disputes. It has witnessed the flourishing of specialised tribunals such as Kula, Shreni and Puga. These institutions are dominated with a neutral third party seeking to identify the underlining needs and concerns of the parties in dispute.

'Panchayat' is alternatives dispute resolution mechanism at _____ level.

1. City
2. National
3. District
4. Village

Options :

485584154613. 1
485584154614. 2
485584154615. 3
485584154616. 4

Question Number : 779 Question Id : 48558438654 Question Type : MCQ Option Shuffling : No Is Question Mandatory : No Calculator : None Response Time : N.A Think Time : N.A Minimum Instruction Time : 0

Correct Marks : 5 Wrong Marks : 1

Question Key Details :

Key	Value
Comprehension	Comp1

निम्नलिखित पैराग्राफ पढ़ें और प्रश्नों का उत्तर दें।

भारत में स्थापित न्यायालय अंग्रेजी न्यायालयों जैसे ही एक समान विधिक तंत्र वाले थे। हालांकि, ऐसे औपचारिक मॉडलों के प्रादुर्भाव से पहले विधिक विवादों के अधिन्यायन के लिए गैर विरोधात्मक तकनीकों का उपयोग किया जाता था। कुल, श्रेणी और पूग जैसे विशेषीकृत अधिकरण देखे गए थे। इन संस्थानों में तटस्थ तृतीय पक्ष का प्रभुत्व था, जो विवाद में संलग्न पक्षकारों की अन्तर्निहित आवश्यकताओं और चिंताओं की पहचान करने का आशय रखते थे।

पंचायत _____ स्तर पर वैकल्पिक विवाद समाधान प्रणाली है।

1. शहर
2. राष्ट्रिय
3. जिला
4. गाँव

Options :

485584154613. 1
485584154614. 2
485584154615. 3
485584154616. 4

Question Number : 780 Question Id : 48558438655 Question Type : MCQ Option Shuffling : No Is Question Mandatory : No Calculator : None Response Time : N.A Think Time : N.A Minimum Instruction Time : 0

Correct Marks : 5 Wrong Marks : 1

Question Key Details :

Key	Value
Comprehension	Comp1

Courts in India were established to have in place a uniform legal system on the lines of the English Courts. However, even before the advent of such formalistic models, the system was characterised by the use of non-adversarial techniques of adjudication of legal disputes. It has witnessed the flourishing of specialised tribunals such as Kula, Shreni and Puga. These institutions are dominated with a neutral third party seeking to identify the underlining needs and concerns of the parties in dispute.

Which of the following was a forum for resolving internal disputes in business corporation of artisans etc?

1. Puga
2. Kula
3. Panchayat
4. Shreni

Options :

485584154617. 1
 485584154618. 2
 485584154619. 3
 485584154620. 4

Question Number : 780 Question Id : 48558438655 Question Type : MCQ Option Shuffling : No Is Question Mandatory : No Calculator : None

Response Time : N.A Think Time : N.A Minimum Instruction Time : 0

Correct Marks : 5 Wrong Marks : 1

Question Key Details :

Key	Value
Comprehension	Comp1

निम्नलिखित पैराग्राफ पढ़ें और प्रश्नों का उत्तर दें।

भारत में स्थापित न्यायालय अंग्रेजी न्यायालयों जैसे ही एक समान विधिक तंत्र वाले थे। हालांकि, ऐसे औपचारिक मॉडलों के प्रादुर्भाव से पहले विधिक विवादों के अधिन्यायन के लिए गैर विरोधात्मक तकनीकों का उपयोग किया जाता था। कुल, श्रेणी और पूग जैसे विशेषीकृत अधिकरण देखे गए थे। इन संस्थानों में तटस्थ तृतीय पक्ष का प्रभुत्व था, जो विवाद में संलग्न पक्षकारों की अन्तर्निहित आवश्यकताओं और चिंताओं की पहचान करने का आशय रखते थे।

निम्नलिखित में से कौन सा दस्तकारों के व्यापारिक संगठनों के आंतरिक विवाद सुलझाने का मंच था ?

1. पूग
2. कुल
3. पंचायत
4. श्रेणी

Options :

485584154617. 1
 485584154618. 2
 485584154619. 3
 485584154620. 4

Sub-Section Number :

3

Sub-Section Id :

4855842945

Question Shuffling Allowed :

No

Is Section Default? :

null

Question Number : 781 Question Id : 48558438656 Question Type : MCQ Option Shuffling : No Is Question Mandatory : No Calculator : None
Response Time : N.A Think Time : N.A Minimum Instruction Time : 0

Correct Marks : 5 Wrong Marks : 1

Question Key Details :

Key	Value
Comprehension	Comp2

Read the source given below and answer the questions 46 to 50 that follows:

In an English case Carlill v Carbolic Ball Co. (1893, 1QB256) the company was the manufacture of a medicine called smoke ball which was used for the treatment of influenza. The company believed that the medicine completely cured influenza. An advertisement was put up offering reward of £100 to anyone who got influenza again after using the smoke ball medicine continuously for fifteen days.

In the advertisement, it was also stated that £1,000 was deposited in a Bank, namely Alliance Bank for paying the reward if such situation arose. Seeing the advertisement Mrs. Carlill bought the smoke ball medicine and used it as per directions provided. Mrs. Carlill got a fresh episode of influenza. Mrs Carlill sued the company for the reward of £100.

The offer announced by Carbolic Smoke Ball Company is to be identified as.

1. Legal offer
2. Specific offer
3. No offer
4. General offer

Options :

485584154621. 1
485584154622. 2
485584154623. 3
485584154624. 4

Question Number : 781 Question Id : 48558438656 Question Type : MCQ Option Shuffling : No Is Question Mandatory : No Calculator : None

Response Time : N.A Think Time : N.A Minimum Instruction Time : 0

Correct Marks : 5 Wrong Marks : 1

Question Key Details :

Key	Value
Comprehension	Comp2

निम्नलिखित पैराग्राफ पढ़ें और प्रश्नों का उत्तर दें।

अंग्रेजी वाद कार्लिल बनाम कार्बोलिक बाल कंपनी (1893, 1QB256) में कंपनी इन्फ्लुएंजा के उपचार में प्रयुक्त स्मोक बाल दवा की निर्माता थी। कंपनी का मानना था की दवा पूर्ण रूप से इन्फ्लुएंजा को ठीक कर देती है। एक विज्ञापन दिया गया जिसमें लगातार 15 दिनों तक स्मोक बाल दवा का सेवन करने के पश्चात दुबारा इन्फ्लुएंजा होने पर किसी को €100 का पुरस्कार देने का प्रस्ताव किया गया था।

विज्ञापन में दावा किया गया की ऐसी स्थिति उत्पन्न होने पर पुरस्कार देने के लिए एलायंस बैंक €1000 जमा किए गए हैं। विज्ञापन देखने पर मिसेज क्रिल ने स्मोक बाल दवा खरीदी और दिए गये निर्देशों के अनुसार इसका उपयोग किया। मिसेज क्रिल को नया इन्फ्लुएंजा हुआ। मिसेज क्रिल ने €100 के पुरस्कार के लिए कंपनी पर दावा किया।

कब्रॉलिक स्मोक बाल के पति द्वारा किया गया प्रस्ताव किस रूप में पहचाना जाएगा-

1. विधिक प्रस्ताव
2. विशिष्ट प्रस्ताव
3. कोई प्रस्ताव नहीं
4. सामान्य प्रस्ताव

Options :

485584154621. 1
485584154622. 2
485584154623. 3
485584154624. 4

Question Number : 782 Question Id : 48558438657 Question Type : MCQ Option Shuffling : No Is Question Mandatory : No Calculator : None Response Time : N.A Think Time : N.A Minimum Instruction Time : 0

Correct Marks : 5 Wrong Marks : 1

Question Key Details :

Key	Value
Comprehension	Comp2

Read the source given below and answer the questions 46 to 50 that follows:

In an English case Carlill v Carbolic Ball Co. (1893, 1QB256) the company was the manufacture of a medicine called smoke ball which was used for the treatment of influenza. The company believed that the medicine completely cured influenza. An advertisement was put up offering reward of £100 to anyone who got influenza again after using the smoke ball medicine continuously for fifteen days.

In the advertisement, it was also stated that £1,000 was deposited in a Bank, namely Alliance Bank for paying the reward if such situation arose. Seeing the advertisement Mrs. Carlil bought the smoke ball medicine and used it as per directions provided. Mrs. Carlill got a fresh episode of influenza, Mrs Carlill sued the company for the reward of £100.

Identify the incorrect statement in regard to above given situation: the manufacture of the company in defence stated that _____.

1. There was no intention to create a legal relationship
2. Acceptance by the offeree had not been communicated
3. The advertisement was not an offer as it was not made to any particular person
4. The advertisement had real intention to fulfill the amount promised

Options :

485584154625. 1
485584154626. 2
485584154627. 3
485584154628. 4

Question Number : 782 Question Id : 48558438657 Question Type : MCQ Option Shuffling : No Is Question Mandatory : No Calculator : None Response Time : N.A Think Time : N.A Minimum Instruction Time : 0

Correct Marks : 5 Wrong Marks : 1

Question Key Details :

Key	Value
Comprehension	Comp2

निम्नलिखित पैराग्राफ पढ़ें और प्रश्नों का उत्तर दें।

अंग्रेजी वाद कार्लिल बनाम कार्बोलिक बाल कंपनी (1893, IQB256) में कंपनी इन्फ्लुएंजा के उपचार में प्रयुक्त स्मोक बाल दवा की निर्माता थी। कंपनी का मानना था की दवा पूर्ण रूप से इन्फ्लुएंजा को ठीक कर देती है। एक विज्ञापन दिया गया जिसमें लगातार 15 दिनों तक स्मोक बाल दवा का सेवन करने के पश्चात दुबारा इन्फ्लुएंजा होने पर किसी को €100 का पुरस्कार देने का प्रस्ताव किया गया था।

विज्ञापन में दावा किया गया की ऐसी स्थिति उत्पन्न होने पर पुरस्कार देने के लिए एलायंस बैंक €1000 जमा किए गए हैं। विज्ञापन देखने पर मिसेज क्रिल ने स्मोक बाल दवा खरीदी और दिए गये निर्देशों के अनुसार इसका उपयोग किया। मिसेज क्रिल को नया इन्फ्लुएंजा हुआ। मिसेज क्रिल ने €100 के पुरस्कार के लिए कंपनी पर दावा किया।

उपरोक्त प्रदत्त स्थिति के सम्बंध में असत्य कथन की पहचान करें:

कंपनी निर्माता ने अपने बचाव में कहा कि _____।

1. विधिक संबंध बनाने की कोई मंशा नहीं थी
2. प्रस्ताव प्राप्तकर्ता द्वारा स्वीकृत के बारे में बताया नहीं गया
3. विज्ञापन कोई प्रस्ताव नहीं था क्योंकि यह किसी विशेष व्यक्ति को नहीं किया गया था।
4. विज्ञापन में वायदा की गई राशि को पूर्ण करने की वास्तविक मंशा थी।

Options :

485584154625. 1
485584154626. 2
485584154627. 3
485584154628. 4

Question Number : 783 Question Id : 48558438658 Question Type : MCQ Option Shuffling : No Is Question Mandatory : No Calculator : None
Response Time : N.A Think Time : N.A Minimum Instruction Time : 0
Correct Marks : 5 Wrong Marks : 1

Question Key Details :

Key	Value
Comprehension	Comp2

Read the source given below and answer the questions 46 to 50 that follows:

In an English case *Carlill v Carbolic Ball Co.* (1893, IQB256) the company was the manufacture of a medicine called smoke ball which was used for the treatment of influenza. The company believed that the medicine completely cured influenza. An advertisement was put up offering reward of £100 to anyone who got influenza again after using the smoke ball medicine continuously for fifteen days.

In the advertisement, it was also stated that £1,000 was deposited in a Bank, namely Alliance Bank for paying the reward if such situation arose. Seeing the advertisement Mrs. Carlill bought the smoke ball medicine and used it as per directions provided. Mrs. Carlill got a fresh episode of influenza. Mrs Carlill sued the company for the reward of £100.

When did Mrs. Carlill get into a relationship with the company?

1. By watching the advertisement
2. By recommending it smoke ball to her friend
3. By buying the product
4. By not following medication properly

Options :

485584154629. 1
485584154630. 2
485584154631. 3
485584154632. 4

Question Number : 783 Question Id : 48558438658 Question Type : MCQ Option Shuffling : No Is Question Mandatory : No Calculator : None
Response Time : N.A Think Time : N.A Minimum Instruction Time : 0
Correct Marks : 5 Wrong Marks : 1

Question Key Details :

Key	Value
Comprehension	Comp2

निम्नलिखित पैराग्राफ पढ़ें और प्रश्नों का उत्तर दें।

अंग्रेजी चाद कार्लिल बनाम कार्बोलिक बाल कंपनी (1893, IQB256) में कंपनी इन्फ्लुएंजा के उपचार में प्रयुक्त स्मोक बाल दवा की निर्माता थी। कंपनी का मानना था की दवा पूर्ण रूप से इन्फ्लुएंजा को ठीक कर देती है। एक विज्ञापन दिया गया जिसमें लगातार 15 दिनों तक स्मोक बाल दवा का सेवन करने के पश्चात दुबारा इन्फ्लुएंजा होने पर किसी को €100 का पुरस्कार देने का प्रस्ताव किया गया था।

विज्ञापन में दावा किया गया की ऐसी स्थिति उत्पन्न होने पर पुरस्कार देने के लिए एलायंस बैंक €1000 जमा किए गए हैं। विज्ञापन देखने पर मिसेज क्रिल ने स्मोक बाल दवा खरीदी और दिए गये निर्देशों के अनुसार इसका उपयोग किया। मिसेज क्रिल को नया इन्फ्लुएंजा हुआ। मिसेज क्रिल ने €100 के पुरस्कार के लिए कंपनी पर दावा किया।

मिसेज कार्लिल कब कंपनी के साथ सम्बंध में आई?

1. विज्ञापन देखने के द्वारा
2. इसकी स्मोक बाल अपने मित्र को परामर्शित करके
3. उत्पाद खरीदने के द्वारा
4. चिकित्सा का उचित विधि से अनुपालन नहीं करके

Options :

485584154629. 1
485584154630. 2
485584154631. 3
485584154632. 4

Question Number : 784 Question Id : 48558438659 Question Type : MCQ Option Shuffling : No Is Question Mandatory : No Calculator : None
Response Time : N.A Think Time : N.A Minimum Instruction Time : 0
Correct Marks : 5 Wrong Marks : 1

Question Key Details :

Key	Value
Comprehension	Comp2

Read the source given below and answer the questions 46 to 50 that follows:

In an English case Carlill v Carbolic Ball Co. (1893, IQB256) the company was the manufacture of a medicine called smoke ball which was used for the treatment of influenza. The company believed that the medicine completely cured influenza. An advertisement was put up offering reward of £100 to anyone who got influenza again after using the smoke ball medicine continuously for fifteen days.

In the advertisement, it was also stated that £1,000 was deposited in a Bank, namely Alliance Bank for paying the reward if such situation arose. Seeing the advertisement Mrs. Carlill bought the smoke ball medicine and used it as per directions provided. Mrs. Carlill got a fresh episode of influenza. Mrs. Carlill sued the company for the reward of £100.

When the advertisement was made it meant to

1. Offer open to all
2. No offer was ever promised
3. Invitation to offer
4. Offer was kept private

Options :

485584154633. 1
485584154634. 2
485584154635. 3
485584154636. 4

Question Number : 784 Question Id : 48558438659 Question Type : MCQ Option Shuffling : No Is Question Mandatory : No Calculator : None
Response Time : N.A Think Time : N.A Minimum Instruction Time : 0
Correct Marks : 5 Wrong Marks : 1
Question Key Details :

Key	Value
Comprehension	Comp2

निम्नलिखित पैराग्राफ पढ़ें और प्रश्नों का उत्तर दें:

अंग्रेजी वाद कार्लिल बनाम कार्बोलिक बाल कंपनी (1893.IQB256) में कंपनी इन्फ्लुएंजा के उपचार में प्रयुक्त स्मोक बाल दवा की निर्माता थी। कंपनी का मानना था की दवा पूर्ण रूप से इन्फ्लुएंजा को ठीक कर देती है। एक विज्ञापन दिया गया जिसमें लगातार 15 दिनों तक स्मोक बाल दवा का सेवन करने के पश्चात दुबारा इन्फ्लुएंजा होने पर किसी को €100 का पुरस्कार देने का प्रस्ताव किया गया था।

विज्ञापन में दावा किया गया की ऐसी स्थिति उत्पन्न होने पर पुरस्कार देने के लिए एलायंस बैंक €1000 जमा किए गए हैं। विज्ञापन देखने पर मिसेज क्रिल ने स्मोक बाल दवा खरीदी और दिए गये निर्देशों के अनुसार इसका उपयोग किया। मिसेज क्रिल को नया इन्फ्लुएंजा हुआ। मिसेज क्रिल ने €100 के पुरस्कार के लिए कंपनी पर दावा किया।

जब विज्ञापन किया गया तब इसका उद्देश्य था

1. सभी के खुले प्रस्ताव
2. कोई प्रस्ताव का वायदा नहीं किया गया
3. प्रस्ताव का आमंत्रण
4. प्रस्ताव निजी गुप्त रखा गया

Options :

485584154633. 1
485584154634. 2
485584154635. 3
485584154636. 4

Question Number : 785 Question Id : 48558438660 Question Type : MCQ Option Shuffling : No Is Question Mandatory : No Calculator : None
Response Time : N.A Think Time : N.A Minimum Instruction Time : 0
Correct Marks : 5 Wrong Marks : 1
Question Key Details :

Key	Value
Comprehension	Comp2

Read the source given below and answer the questions 46 to 50 that follows:

In an English case *Carlill v Carbolic Ball Co.* (1893, 1QB256) the company was the manufacture of a medicine called smoke ball which was used for the treatment of influenza. The company believed that the medicine completely cured influenza. An advertisement was put up offering reward of £100 to anyone who got influenza again after using the smoke ball medicine continuously for fifteen days.

In the advertisement, it was also stated that £1,000 was deposited in a Bank, namely Alliance Bank for paying the reward if such situation arose. Seeing the advertisement Mrs. Carlill bought the smoke ball medicine and used it as per directions provided. Mrs. Carlill got a fresh episode of influenza. Mrs. Carlill sued the company for the reward of £100.

Identify the courts correct judgment.

1. The court accepted the contentions of the Carbolic Smoke Ball Company
2. The court rejected Mrs. Carlill's suit as the offer made was general and not personal
3. The court allowed Mrs. Carlill to claim for £100
4. The court accepted Carbolic Smoke Ball Company to sue Mrs. Carlill for defamation

Options :

485584154637. 1
485584154638. 2
485584154639. 3
485584154640. 4

Question Number : 785 Question Id : 48558438660 Question Type : MCQ Option Shuffling : No Is Question Mandatory : No Calculator : None
Response Time : N.A Think Time : N.A Minimum Instruction Time : 0
Correct Marks : 5 Wrong Marks : 1

Question Key Details :

Key	Value
Comprehension	Comp2

निम्नलिखित पैराग्राफ पढ़ें और प्रश्नों का उत्तर दें।

अंग्रेजी वाद कार्लिल बनाम कार्बोलिक बाल कंपनी (1893, 1QB256) में कंपनी इन्फ्लुएंजा के उपचार में प्रयुक्त स्मोक बाल दवा की निर्माता थी। कंपनी का मानना था की दवा पूर्ण रूप से इन्फ्लुएंजा को ठीक कर देती है। एक विज्ञापन दिया गया जिसमें लगातार 15 दिनों तक स्मोक बाल दवा का सेवन करने के पश्चात दुबारा इन्फ्लुएंजा होने पर किसी को €100 का पुरस्कार देने का प्रस्ताव किया गया था।

विज्ञापन में दावा किया गया की ऐसी स्थिति उत्पन्न होने पर पुरस्कार देने के लिए एलायंस बैंक €1000 जमा किए गए हैं। विज्ञापन देखने पर मिसेज क्रिल ने स्मोक बाल दवा खरीदी और दिए गये निर्देशों के अनुसार इसका उपयोग किया। मिसेज क्रिल को नया इन्फ्लुएंजा हुआ। मिसेज क्रिल ने €100 के पुरस्कार के लिए कंपनी पर दावा किया।

न्यायालय के सही निर्णय की पहचान करें:-

1. न्यायालय ने कार्बोलिक स्मोक बाल कंपनी के प्रतिद्वंद्वी को स्वीकार किया
2. न्यायालय ने मिसेज कार्लिल का वाद अस्वीकार किया क्योंकि प्रस्ताव सामान्य था और व्यक्तिगत नहीं
3. न्यायालय ने मिसेज कार्लिल को £100 का दावा करने की अनुमति दी।
4. न्यायालय ने कार्बोलिक स्मोक बाल कंपनी को मानहानि के लिए मिसेज कार्लिल पर वाद करने की अनुमति दी।

Options :

485584154637. 1
485584154638. 2
485584154639. 3
485584154640. 4

Mass Media

Group Number : 17
Group Id : 485584898
Group Maximum Duration : 45
Group Minimum Duration : 45
Show Attended Group? : No
Edit Attended Group? : No
Break time : 0
Group Marks : 200
Is this Group for Examiner? : No
Examiner permission : Cant View
Show Progress Bar? : No

Mass Media

Section Id : 4855841040
Section Number : 1
Section type : Online
Mandatory or Optional : Mandatory
Number of Questions : 50
Number of Questions to be attempted : 40
Section Marks : 200
Enable Mark as Answered Mark for Review and Clear Response : Yes
Maximum Instruction Time : 0
Sub-Section Number : 1
Sub-Section Id : 4855842946
Question Shuffling Allowed : Yes
Is Section Default? : null

Question Number : 786 Question Id : 48558439616 Question Type : MCQ Option Shuffling : No Is Question Mandatory : No Calculator : None
Response Time : N.A Think Time : N.A Minimum Instruction Time : 0
Correct Marks : 5 Wrong Marks : 1
Question Key Details :

Key	Value
Comprehension	MCQ

Colour TV was introduced in India during :

- (1) Asian Games 1982
- (2) Commonwealth Games 1986
- (3) Asian Games 1984
- (4) Commonwealth Games 1990

Options :
485584158461. 1
485584158462. 2
485584158463. 3
485584158464. 4

Question Number : 786 Question Id : 48558439616 Question Type : MCQ Option Shuffling : No Is Question Mandatory : No Calculator : None
Response Time : N.A Think Time : N.A Minimum Instruction Time : 0
Correct Marks : 5 Wrong Marks : 1
Question Key Details :

Key	Value
Comprehension	MCQ

भारत में रंगीन टी.वी. की शुरुआत किस दौरान हुई थी ?

- (1) एशियन गैम्स, 1982
- (2) कॉमनवैल्थ गैम्स, 1986
- (3) एशियन गैम्स, 1984
- (4) कॉमनवैल्थ गैम्स, 1990

Options :

485584158461. 1
485584158462. 2
485584158463. 3
485584158464. 4

Question Number : 787 Question Id : 48558439617 Question Type : MCQ Option Shuffling : No Is Question Mandatory : No Calculator : None

Response Time : N.A Think Time : N.A Minimum Instruction Time : 0

Correct Marks : 5 Wrong Marks : 1

Question Key Details :

Key	Value
Comprehension	MCQ

Which editing transition generates an effect wherein, the shape, colours, contours of the person or object change within a shot.

- (1) Freeze
- (2) Morphing
- (3) Dissolve
- (4) Wipe

Options :

485584158465. 1
485584158466. 2
485584158467. 3
485584158468. 4

Question Number : 787 Question Id : 48558439617 Question Type : MCQ Option Shuffling : No Is Question Mandatory : No Calculator : None

Response Time : N.A Think Time : N.A Minimum Instruction Time : 0

Correct Marks : 5 Wrong Marks : 1

Question Key Details :

Key	Value
Comprehension	MCQ

किस सम्पादकीय संक्रांति के द्वारा एक ही शॉट में किसी व्यक्ति या वस्तु की बनावट, रंग एवं आकृति पर प्रभाव प्रदर्शित होता है ?

- (1) विराम
- (2) कम्प्यूटर एनीमेशन की सहायता से चित्र बदलना
- (3) समापन
- (4) सूचना सामग्री या चित्र मिटाना

Options :

485584158465. 1
485584158466. 2
485584158467. 3
485584158468. 4

Question Number : 788 Question Id : 48558439618 Question Type : MCQ Option Shuffling : No Is Question Mandatory : No Calculator : None

Response Time : N.A Think Time : N.A Minimum Instruction Time : 0

Correct Marks : 5 Wrong Marks : 1

Question Key Details :

Key	Value
Comprehension	MCQ

Which media house rose to popularity due to sting journalism ?

- (1) India Today
- (2) Outlook
- (3) Tehelka
- (4) Frontline

Options :

485584158469. 1
485584158470. 2
485584158471. 3
485584158472. 4

Question Number : 788 Question Id : 48558439618 Question Type : MCQ Option Shuffling : No Is Question Mandatory : No Calculator : None Response Time : N.A Think Time : N.A Minimum Instruction Time : 0

Correct Marks : 5 Wrong Marks : 1

Question Key Details :

Key	Value
Comprehension	MCQ

कौन सा मीडिया घराना खोजी पत्रकारिता के कारण लोकप्रिय हुआ ?

- (1) इण्डिया टुडे
- (2) आउटलुक
- (3) तहलका
- (4) फ्रंटलाइन

Options :

485584158469. 1
485584158470. 2
485584158471. 3
485584158472. 4

Question Number : 789 Question Id : 48558439619 Question Type : MCQ Option Shuffling : No Is Question Mandatory : No Calculator : None Response Time : N.A Think Time : N.A Minimum Instruction Time : 0

Correct Marks : 5 Wrong Marks : 1

Question Key Details :

Key	Value
Comprehension	MCQ

Which among the following is NOT a news agency ?

- (1) AFP
- (2) ABP
- (3) DPA
- (4) AP

Options :

485584158473. 1
485584158474. 2
485584158475. 3
485584158476. 4

Question Number : 789 Question Id : 48558439619 Question Type : MCQ Option Shuffling : No Is Question Mandatory : No Calculator : None Response Time : N.A Think Time : N.A Minimum Instruction Time : 0

Correct Marks : 5 Wrong Marks : 1

Question Key Details :

Key	Value
Comprehension	MCQ

निम्नलिखित में से कौन-सी न्यूज एजेंसी नहीं है ?

- (1) AFP
- (2) ABP
- (3) DPA
- (4) AP

Options :

485584158473. 1
485584158474. 2
485584158475. 3
485584158476. 4

Question Number : 790 Question Id : 48558439620 Question Type : MCQ Option Shuffling : No Is Question Mandatory : No Calculator : None Response Time : N.A Think Time : N.A Minimum Instruction Time : 0 Correct Marks : 5 Wrong Marks : 1

Question Key Details :

Key	Value
Comprehension	MCQ

The length of the film exposed in a continuous running of the camera at the time of shooting is called _____.

- (1) Sequence
- (2) Scene
- (3) Shot
- (4) Visual

Options :

485584158477. 1
485584158478. 2
485584158479. 3
485584158480. 4

Question Number : 790 Question Id : 48558439620 Question Type : MCQ Option Shuffling : No Is Question Mandatory : No Calculator : None Response Time : N.A Think Time : N.A Minimum Instruction Time : 0 Correct Marks : 5 Wrong Marks : 1

Question Key Details :

Key	Value
Comprehension	MCQ

शूटिंग के समय कैमरे की अविरल गति में एक्सपोज की गई फिल्म की लम्बाई _____ कहलाती है।

- (1) क्रम
- (2) दृश्य
- (3) शॉट
- (4) विजुअल

Options :

485584158477. 1
485584158478. 2
485584158479. 3
485584158480. 4

Question Number : 791 Question Id : 48558439621 Question Type : MCQ Option Shuffling : No Is Question Mandatory : No Calculator : None Response Time : N.A Think Time : N.A Minimum Instruction Time : 0

Correct Marks : 5 Wrong Marks : 1

Question Key Details :

Key	Value
Comprehension	MCQ

Who is the author of the great essay
'The Evolution of Means of Human Thought and Expression' ?

- (1) Kashinath Wadwalkar
- (2) Itihasacharya Vishwanath Kashinath Rajwade
- (3) Itihasacharya Rajnath Kelkar
- (4) Romila Thapar

Options :

485584158481. 1
485584158482. 2
485584158483. 3
485584158484. 4

Question Number : 791 Question Id : 48558439621 Question Type : MCQ Option Shuffling : No Is Question Mandatory : No Calculator : None
Response Time : N.A Think Time : N.A Minimum Instruction Time : 0
Correct Marks : 5 Wrong Marks : 1

Question Key Details :

Key	Value
Comprehension	MCQ

प्रसिद्ध निबंध 'द इवोलुशन ऑफ द मीन्स ऑफ ह्यूमन थोUGHT एण्ड एक्सप्रेसन' के लेखक कौन हैं ?

- (1) काशीनाथ वाडवालकर
- (2) इतिहासाचार्य विश्वनाथ काशीनाथ राजवाड़े
- (3) इतिहासाचार्य राजनाथ केलकर
- (4) रोमिला थापर

Options :

485584158481. 1
485584158482. 2
485584158483. 3
485584158484. 4

Question Number : 792 Question Id : 48558439622 Question Type : MCQ Option Shuffling : No Is Question Mandatory : No Calculator : None
Response Time : N.A Think Time : N.A Minimum Instruction Time : 0

Correct Marks : 5 Wrong Marks : 1

Question Key Details :

Key	Value
Comprehension	MCQ

Which type/kind of journalism uses the marketing strategy for local retail advertising and segmentation of its readers to target neighbourhoods and suburbs ?

- (1) Yellow Journalism
- (2) Supplement Journalism
- (3) Gonzo Journalism
- (4) Page 3 Journalism

Options :

485584158485. 1
485584158486. 2
485584158487. 3
485584158488. 4

Question Number : 792 Question Id : 48558439622 Question Type : MCQ Option Shuffling : No Is Question Mandatory : No Calculator : None
Response Time : N.A Think Time : N.A Minimum Instruction Time : 0

Correct Marks : 5 Wrong Marks : 1

Question Key Details :

Key	Value
Comprehension	MCQ

किस प्रकार की पत्रकारिता में स्थानीय खुदरा विज्ञापन देने और-अपने पाठकों को लक्ष्य पढ़ोसों और उपनगरों में पृथक्करण की विपणन रणनीति का प्रयोग किया जाता है ?

- (1) येलो पत्रकारिता
- (2) अनुपूरक पत्रकारिता
- (3) गोंजो पत्रकारिता
- (4) पेज 3 पत्रकारिता

Options :

485584158485. 1

485584158486. 2

485584158487. 3

485584158488. 4

Question Number : 793 Question Id : 48558439623 Question Type : MCQ Option Shuffling : No Is Question Mandatory : No Calculator : None

Response Time : N.A Think Time : N.A Minimum Instruction Time : 0

Correct Marks : 5 Wrong Marks : 1

Question Key Details :

Key	Value
Comprehension	MCQ

Which famous documentary maker said, "They wished that viewers might share the adventure and despair of other men's lives, and commiserate with the downtrodden and underprivileged"?

- (1) Pare Lorentz
- (2) Roy Stryker
- (3) John Grierson
- (4) A. William Blueni

Options :

485584158489. 1

485584158490. 2

485584158491. 3

485584158492. 4

Question Number : 793 Question Id : 48558439623 Question Type : MCQ Option Shuffling : No Is Question Mandatory : No Calculator : None

Response Time : N.A Think Time : N.A Minimum Instruction Time : 0

Correct Marks : 5 Wrong Marks : 1

Question Key Details :

Key	Value
Comprehension	MCQ

किस प्रसिद्ध डॉक्यूमेंटरी निर्माता का कथन है, " वे चाहते थे कि दर्शक अन्य पुरुषों के जीवन के साहसिक कार्य और निराशा को साझा करें और दलितों और शोषितों के साथ संवेदना जतायें ?

- (1) पार लॉरेंज
- (2) राय स्ट्रेयकर
- (3) जॉन ग्रियरसन
- (4) ए. विलियम ब्लूनी

Options :

485584158489. 1

485584158490. 2

485584158491. 3

485584158492. 4

Question Number : 794 Question Id : 48558439624 Question Type : MCQ Option Shuffling : No Is Question Mandatory : No Calculator : None

Response Time : N.A Think Time : N.A Minimum Instruction Time : 0

Correct Marks : 5 Wrong Marks : 1

Question Key Details :

Key	Value
Comprehension	MCQ

_____ is a process in which two or more advertisers of a product or service associate themselves with each other to increase their profile to reach more people.

- (1) Case Study
- (2) Cross Promotion
- (3) Indirect Promotion
- (4) Collaborative Promotion

Options :

485584158493. 1

485584158494. 2

485584158495. 3

485584158496. 4

Question Number : 794 Question Id : 48558439624 Question Type : MCQ Option Shuffling : No Is Question Mandatory : No Calculator : None

Response Time : N.A Think Time : N.A Minimum Instruction Time : 0

Correct Marks : 5 Wrong Marks : 1

Question Key Details :

Key	Value
Comprehension	MCQ

_____ एक प्रक्रिया है जिसमें किसी उत्पाद या सेवा के दो या अधिक विज्ञापक अधिकाधिक लोगों तक पहुँचने के लिए अपने प्रोफाइल में विस्तार के लिए एक दूसरे के साथ संबंधित होते हैं।

- (1) व्यक्ति अध्ययन (Case Study)
- (2) अन्योन्य संवर्धन
- (3) परोक्ष संवर्धन
- (4) सहयोगात्मक संवर्धन

Options :

485584158493. 1

485584158494. 2

485584158495. 3

485584158496. 4

Question Number : 795 Question Id : 48558439625 Question Type : MCQ Option Shuffling : No Is Question Mandatory : No Calculator : None

Response Time : N.A Think Time : N.A Minimum Instruction Time : 0

Correct Marks : 5 Wrong Marks : 1

Question Key Details :

Key	Value
Comprehension	MCQ

According to which contemporary thinker, Globalization, Regionalization and Democratization are three mega trends that characterize our own era ?

- (1) Amartya Sen
- (2) Majid Tehranian
- (3) Lippmann Walter
- (4) Everett Rogers

Options :

485584158497. 1
485584158498. 2
485584158499. 3
485584158500. 4

Question Number : 795 Question Id : 48558439625 Question Type : MCQ Option Shuffling : No Is Question Mandatory : No Calculator : None
Response Time : N.A Think Time : N.A Minimum Instruction Time : 0
Correct Marks : 5 Wrong Marks : 1

Question Key Details :

Key	Value
Comprehension	MCQ

किस समकालीन विचारक के अनुसार, वैश्वीकरण, क्षेत्रीयकरण और लोकतांत्रिकरण हमारा युग अभिलक्षित करने वाली तीन मेगा प्रवृत्तियाँ हैं ?

- (1) आमर्त्य सेन
- (2) मजिद तेहरानियन
- (3) लिप वाल्टर
- (4) एचरेट रोजर्स

Options :

485584158497. 1
485584158498. 2
485584158499. 3
485584158500. 4

Question Number : 796 Question Id : 48558439626 Question Type : MCQ Option Shuffling : No Is Question Mandatory : No Calculator : None
Response Time : N.A Think Time : N.A Minimum Instruction Time : 0
Correct Marks : 5 Wrong Marks : 1

Question Key Details :

Key	Value
Comprehension	MCQ

What is commonly used for compression of a photographic image ?

- (1) JPEG
- (2) GIF
- (3) HTML
- (4) URL

Options :

485584158501. 1
485584158502. 2
485584158503. 3
485584158504. 4

Question Number : 796 Question Id : 48558439626 Question Type : MCQ Option Shuffling : No Is Question Mandatory : No Calculator : None
Response Time : N.A Think Time : N.A Minimum Instruction Time : 0

Correct Marks : 5 Wrong Marks : 1

Question Key Details :

Key	Value
Comprehension	MCQ

किसी फोटोग्राफिक छवि के संपीड़न के लिए सामान्यतः किसका प्रयोग किया जाता है ?

- (1) JPEG
- (2) GIF
- (3) HTML
- (4) URL

Options :

485584158501. 1
 485584158502. 2
 485584158503. 3
 485584158504. 4

Question Number : 797 Question Id : 48558439627 Question Type : MCQ Option Shuffling : No Is Question Mandatory : No Calculator : None
 Response Time : N.A Think Time : N.A Minimum Instruction Time : 0

Correct Marks : 5 Wrong Marks : 1

Question Key Details :

Key	Value
Comprehension	MCQ

A form of harassment inflicted through the use of electronic or communication devices is called :

- (1) Cyberstalking
- (2) Cyberbullying
- (3) Cybergrooming
- (4) Phishing

Options :

485584158505. 1
 485584158506. 2
 485584158507. 3
 485584158508. 4

Question Number : 797 Question Id : 48558439627 Question Type : MCQ Option Shuffling : No Is Question Mandatory : No Calculator : None
 Response Time : N.A Think Time : N.A Minimum Instruction Time : 0

Correct Marks : 5 Wrong Marks : 1

Question Key Details :

Key	Value
Comprehension	MCQ

किसी इलेक्ट्रॉनिक या संचार साधन के जरिए किए गए उत्पीड़न के स्वरूप को कहा जाता है :

- (1) साइबर स्टार्किंग
- (2) साइबर बुल्लिंग
- (3) साइबर ग्रूमिंग
- (4) फिशिंग Phishing

Options :

485584158505. 1
 485584158506. 2
 485584158507. 3
 485584158508. 4

Question Number : 798 Question Id : 48558439628 Question Type : MCQ Option Shuffling : No Is Question Mandatory : No Calculator : None
 Response Time : N.A Think Time : N.A Minimum Instruction Time : 0

Correct Marks : 5 Wrong Marks : 1

Question Key Details :

Key	Value
Comprehension	MCQ

What type of radio programme is generally of 15 minutes duration, presents 'Spot' reports, comments, interviews and extracts from speeches ?

- (1) Radio feature
- (2) Radio drama
- (3) News reels
- (4) Radio Talks

Options :

- 485584158509. 1
- 485584158510. 2
- 485584158511. 3
- 485584158512. 4

Question Number : 798 Question Id : 48558439628 Question Type : MCQ Option Shuffling : No Is Question Mandatory : No Calculator : None Response Time : N.A Think Time : N.A Minimum Instruction Time : 0

Correct Marks : 5 Wrong Marks : 1

Question Key Details :

Key	Value
Comprehension	MCQ

15 मिनट की अवधि वाले किस रेडियो प्रोग्राम में 'ताजा' रिपोर्ट, टिप्पणियां, साक्षात्कार और भाषणों के उद्घरण प्रस्तुत किए जाते हैं ?

- (1) रेडियो फीचर्स
- (2) रेडियो ड्रामा
- (3) न्यूजरील
- (4) रेडियो टॉक

Options :

- 485584158509. 1
- 485584158510. 2
- 485584158511. 3
- 485584158512. 4

Question Number : 799 Question Id : 48558439629 Question Type : MCQ Option Shuffling : No Is Question Mandatory : No Calculator : None Response Time : N.A Think Time : N.A Minimum Instruction Time : 0

Correct Marks : 5 Wrong Marks : 1

Question Key Details :

Key	Value
Comprehension	MCQ

Which amongst the following is **not** an example of Browser ?

- (1) Firefox
- (2) Safari
- (3) Chrome
- (4) Gnome

Options :

- 485584158513. 1
- 485584158514. 2
- 485584158515. 3
- 485584158516. 4

Question Number : 799 Question Id : 48558439629 Question Type : MCQ Option Shuffling : No Is Question Mandatory : No Calculator : None Response Time : N.A Think Time : N.A Minimum Instruction Time : 0

Correct Marks : 5 Wrong Marks : 1

Question Key Details :

Key	Value
Comprehension	MCQ

निम्नलिखित में से कौन-सा ब्राउजर का उदाहरण नहीं है ?

- (1) फायरफोक्स
- (2) सफारी
- (3) क्रोम
- (4) जिनोम

Options :

485584158513. 1

485584158514. 2

485584158515. 3

485584158516. 4

Question Number : 800 Question Id : 48558439630 Question Type : MCQ Option Shuffling : No Is Question Mandatory : No Calculator : None

Response Time : N.A Think Time : N.A Minimum Instruction Time : 0

Correct Marks : 5 Wrong Marks : 1

Question Key Details :

Key	Value
Comprehension	MCQ

Phatic, personal and intimate are stages of which type of communication ?

- (1) Mass Communication
- (2) Intrapersonal Communication
- (3) Interpersonal Communication
- (4) Group Communication

Options :

485584158517. 1

485584158518. 2

485584158519. 3

485584158520. 4

Question Number : 800 Question Id : 48558439630 Question Type : MCQ Option Shuffling : No Is Question Mandatory : No Calculator : None

Response Time : N.A Think Time : N.A Minimum Instruction Time : 0

Correct Marks : 5 Wrong Marks : 1

Question Key Details :

Key	Value
Comprehension	MCQ

सामाजिक संबंध, व्यक्तिगत और आत्मीय किस प्रकार के संचार की अवस्थाएँ हैं ?

- (1) जनसंचार
- (2) अंतराव्यक्तिगत संचार
- (3) अंतर्व्यक्तिगत संचार
- (4) सामुहिक संचार

Options :

485584158517. 1

485584158518. 2

485584158519. 3

485584158520. 4

Question Number : 801 Question Id : 48558439631 Question Type : MCQ Option Shuffling : No Is Question Mandatory : No Calculator : None

Response Time : N.A Think Time : N.A Minimum Instruction Time : 0

Correct Marks : 5 Wrong Marks : 1

Question Key Details :

Key	Value
-----	-------

Ethnocentrism in cultural context refers to :

- (1) Learning your own culture
- (2) Understanding new culture
- (3) Undermining other culture
- (4) Transmission of culture

Options :

485584158521. 1
485584158522. 2
485584158523. 3
485584158524. 4

Question Number : 801 Question Id : 48558439631 Question Type : MCQ Option Shuffling : No Is Question Mandatory : No Calculator : None
Response Time : N.A Think Time : N.A Minimum Instruction Time : 0

Correct Marks : 5 Wrong Marks : 1

Question Key Details :

Key	Value
Comprehension	MCQ

सांस्कृतिक संदर्भ में मानवजाति केंद्रीयतावाद किसको संदर्भित करता है :

- (1) अपनी खुद की संस्कृति को सीखना
- (2) नई संस्कृति को सीखना
- (3) अन्य संस्कृति का अवमूल्यन करना
- (4) संस्कृति का हस्तांतरण

Options :

485584158521. 1
485584158522. 2
485584158523. 3
485584158524. 4

Question Number : 802 Question Id : 48558439632 Question Type : MCQ Option Shuffling : No Is Question Mandatory : No Calculator : None
Response Time : N.A Think Time : N.A Minimum Instruction Time : 0

Correct Marks : 5 Wrong Marks : 1

Question Key Details :

Key	Value
Comprehension	MCQ

Problems in crafting messages, like use of inappropriate or sloppy word is called _____.

- (1) Complex noise
- (2) Semantic noise
- (3) Social noise
- (4) Environment noise

Options :

485584158525. 1
485584158526. 2
485584158527. 3
485584158528. 4

Question Number : 802 Question Id : 48558439632 Question Type : MCQ Option Shuffling : No Is Question Mandatory : No Calculator : None
Response Time : N.A Think Time : N.A Minimum Instruction Time : 0

Correct Marks : 5 Wrong Marks : 1

Question Key Details :

Key	Value
Comprehension	MCQ

संदेश तैयार करने में अनुप्रयुक्त या बेढंगे शब्दों के प्रयोग की समस्याएँ कहलाती हैं _____ ।

- (1) जटिल शोर
- (2) अर्थगत शोर
- (3) सामाजिक शोर
- (4) पर्यावरण शोर

Options :

485584158525. 1
485584158526. 2
485584158527. 3
485584158528. 4

Question Number : 803 Question Id : 48558439633 Question Type : MCQ Option Shuffling : No Is Question Mandatory : No Calculator : None Response Time : N.A Think Time : N.A Minimum Instruction Time : 0

Correct Marks : 5 Wrong Marks : 1

Question Key Details :

Key	Value
Comprehension	MCQ

Arrange the following steps in sequence for planning documentation for a website :

- (A) Information Structure
- (B) Layout and Interface
- (C) Information Architecture
- (D) Storyboard using computer software
- (E) Planning number of pages

Choose the **correct** answer from the options given below :

- (1) (C), (A), (D), (B)
- (2) (C), (A), (E), (B)
- (3) (A), (C), (B), (D)
- (4) (C), (A), (B), (D)

Options :

485584158529. 1
485584158530. 2
485584158531. 3
485584158532. 4

Question Number : 803 Question Id : 48558439633 Question Type : MCQ Option Shuffling : No Is Question Mandatory : No Calculator : None Response Time : N.A Think Time : N.A Minimum Instruction Time : 0

Correct Marks : 5 Wrong Marks : 1

Question Key Details :

Key	Value
Comprehension	MCQ

किसी वेबसाइट की दस्तावेज योजना के लिए निम्नलिखित चरणों को क्रम में व्यवस्थित कीजिए :

- (A) सूचना संरचना
- (B) लेआउट और इंटरफेस
- (C) सूचना वास्तुकी
- (D) कंप्यूटर सॉफ्टवेयर की सहायता से स्टोरीबोर्ड
- (E) पृष्ठ संख्या योजना

नीचे दिए गए विकल्पों में से सही उत्तर का चयन कीजिए :

- (1) (C), (A), (D), (E), (B)
- (2) (C), (A), (E), (D), (B)
- (3) (A), (C), (B), (E), (D)
- (4) (C), (A), (B), (E), (D)

Options :

- 485584158529. 1
- 485584158530. 2
- 485584158531. 3
- 485584158532. 4

Question Number : 804 Question Id : 48558439634 Question Type : MCQ Option Shuffling : No Is Question Mandatory : No Calculator : None
Response Time : N.A Think Time : N.A Minimum Instruction Time : 0

Correct Marks : 5 Wrong Marks : 1

Question Key Details :

Key	Value
Comprehension	MCQ

What is the sequence to convert raw footage into a finished film ?

- (A) Negative is used to print picture positive
- (B) Exposed film is developed into picture negative
- (C) Rushes are assembled in sequence to make rough cut and final cut
- (D) Sound is added
- (E) Negative is edited to the exact length of the edited positive to make picture positive

Choose the correct answer from the options given below :

- (1) (B), (A), (D), (C), (E) Only
- (2) (A), (B), (C), (D), (E) Only
- (3) (B), (A), (C), (D), (E) Only
- (4) (B), (A), (D), (C), (E) Only

Options :

- 485584158533. 1
- 485584158534. 2
- 485584158535. 3
- 485584158536. 4

Question Number : 804 Question Id : 48558439634 Question Type : MCQ Option Shuffling : No Is Question Mandatory : No Calculator : None
Response Time : N.A Think Time : N.A Minimum Instruction Time : 0

Correct Marks : 5 Wrong Marks : 1

Question Key Details :

Key	Value
Comprehension	MCQ

अपरिष्कृत फुटेज (रॉ फुटेज) को परिष्कृत फिल्म में परिवर्तित करने का सही क्रम क्या है?

- (A) पिक्चर पॉजिटिव को प्रिंट करने के लिए नेगेटिव का प्रयोग किया जाता है।
- (B) एक्सपोज़्ड फिल्म को पिक्चर नेगेटिव में विकसित किया जाता है।
- (C) 'रफ कट' और 'फाइनल कट' तैयार करने के लिए तुरंत प्रतियों को क्रम में संयोजित किया जाता है।
- (D) ध्वनि जोड़ी जाती है।
- (E) पिक्चर पॉजिटिव तैयार करने के लिए संपादित पॉजिटिव को यथार्थ लंबाई के अनुसार नेगेटिव को संपादित किया जाता है।

नीचे दिए गए विकल्पों में से सही उत्तर का चयन कीजिए :

- (1) केवल (B), (A), (D), (C), (E)
- (2) केवल (A), (B), (C), (D), (E)
- (3) केवल (B), (A), (C), (D), (E)
- (4) केवल (B), (A), (D), (C), (E)

Options :

- 485584158533. 1
- 485584158534. 2
- 485584158535. 3
- 485584158536. 4

Question Number : 805 Question Id : 48558439635 Question Type : MCQ Option Shuffling : No Is Question Mandatory : No Calculator : None
Response Time : N.A Think Time : N.A Minimum Instruction Time : 0
Correct Marks : 5 Wrong Marks : 1

Question Key Details :

Key	Value
Comprehension	MCQ

Positive effects of Social Media on democracy are :

- (A) Transparency and Accountability
- (B) Inclusivity
- (C) Bridging the distance
- (D) News stories quickly go viral leading to misinterpretation
- (E) Information cocoon

Choose the **correct** answer from the options given below :

- (1) (A), (B), (D) Only
- (2) (B), (C), (D) Only
- (3) (A), (B), (C) Only
- (4) (B), (C), (E) Only

Options :

- 485584158537. 1
- 485584158538. 2
- 485584158539. 3
- 485584158540. 4

Question Number : 805 Question Id : 48558439635 Question Type : MCQ Option Shuffling : No Is Question Mandatory : No Calculator : None
Response Time : N.A Think Time : N.A Minimum Instruction Time : 0
Correct Marks : 5 Wrong Marks : 1

Question Key Details :

Key	Value
Comprehension	MCQ

लोकतंत्र पर सोशल मीडिया के सकारात्मक प्रभाव हैं :

- (A) पारदर्शिता और जवाबदेही
- (B) समावेशिता
- (C) दूरी को पाटना
- (D) सामाचार विवरण तुरंत वायरल हो जाते हैं जिससे गलत व्याख्या का खतरा बढ़ जाता है।
- (E) सूचना कृमिकोष

नीचे दिए गए विकल्पों में से सही उत्तर का चयन कीजिए :

- (1) केवल (A), (B), (D)
- (2) केवल (B), (C), (D)
- (3) केवल (A), (B), (C)
- (4) केवल (B), (C), (E)

Options :

- 485584158537. 1
- 485584158538. 2
- 485584158539. 3
- 485584158540. 4

Question Number : 806 Question Id : 48558439636 Question Type : MCQ Option Shuffling : No Is Question Mandatory : No Calculator : None Response Time : N.A Think Time : N.A Minimum Instruction Time : 0

Correct Marks : 5 Wrong Marks : 1

Question Key Details :

Key	Value
Comprehension	MCQ

Which editing transition shows instant stop in a running film ?

- (1) Cut
- (2) Dissolve
- (3) Fade out
- (4) Freeze

Options :

- 485584158541. 1
- 485584158542. 2
- 485584158543. 3
- 485584158544. 4

Question Number : 806 Question Id : 48558439636 Question Type : MCQ Option Shuffling : No Is Question Mandatory : No Calculator : None Response Time : N.A Think Time : N.A Minimum Instruction Time : 0

Correct Marks : 5 Wrong Marks : 1

Question Key Details :

Key	Value
Comprehension	MCQ

किसी धारावाहक फिल्म में सम्पादकीय संक्रमण तत्क्षण अवरोध का प्रतीक है। इसे कहा जाता है ?

- (1) कट
- (2) दृश्यांतरण
- (3) शनैः लोपन
- (4) अवरोधन

Options :

485584158541. 1

485584158542. 2

485584158543. 3

485584158544. 4

Question Number : 807 Question Id : 48558439637 Question Type : MCQ Option Shuffling : No Is Question Mandatory : No Calculator : None Response Time : N.A Think Time : N.A Minimum Instruction Time : 0 Correct Marks : 5 Wrong Marks : 1

Question Key Details :

Key	Value
Comprehension	MCQ

The theme of the book '1984' by George Orwell is :

- (1) Sikh Riots
- (2) Governance
- (3) Diplomacy
- (4) Propaganda

Options :

485584158545. 1

485584158546. 2

485584158547. 3

485584158548. 4

Question Number : 807 Question Id : 48558439637 Question Type : MCQ Option Shuffling : No Is Question Mandatory : No Calculator : None Response Time : N.A Think Time : N.A Minimum Instruction Time : 0 Correct Marks : 5 Wrong Marks : 1

Question Key Details :

Key	Value
Comprehension	MCQ

जॉर्ज ओर्वेल द्वारा लिखित '1984' पुस्तक का विषय क्या है ?

- (1) सिख दंगे
- (2) शासन
- (3) कूटनीति
- (4) प्रचार

Options :

485584158545. 1

485584158546. 2

485584158547. 3

485584158548. 4

Question Number : 808 Question Id : 48558439638 Question Type : MCQ Option Shuffling : No Is Question Mandatory : No Calculator : None Response Time : N.A Think Time : N.A Minimum Instruction Time : 0 Correct Marks : 5 Wrong Marks : 1

Question Key Details :

Key	Value
Comprehension	MCQ

Who invented the Cinematographe ?

- (1) Edison
- (2) Dickson
- (3) Lumiere Brothers
- (4) John Grierson

Options :

485584158549. 1

485584158550. 2
485584158551. 3
485584158552. 4

Question Number : 808 Question Id : 48558439638 Question Type : MCQ Option Shuffling : No Is Question Mandatory : No Calculator : None
Response Time : N.A Think Time : N.A Minimum Instruction Time : 0

Correct Marks : 5 Wrong Marks : 1

Question Key Details :

Key	Value
Comprehension	MCQ

चलचित्र का आविष्कार किसने किया ?

- (1) एडिसन
- (2) डिक्सन
- (3) लुमीयर ब्रदर्स
- (4) जॉन ग्रियर्सन

Options :

485584158549. 1
485584158550. 2
485584158551. 3
485584158552. 4

Question Number : 809 Question Id : 48558439639 Question Type : MCQ Option Shuffling : No Is Question Mandatory : No Calculator : None
Response Time : N.A Think Time : N.A Minimum Instruction Time : 0

Correct Marks : 5 Wrong Marks : 1

Question Key Details :

Key	Value
Comprehension	MCQ

Unicast refers to be :

- (1) One-way Communication
- (2) Two-way Communication
- (3) External Communication
- (4) Internal Communication

Options :

485584158553. 1
485584158554. 2
485584158555. 3
485584158556. 4

Question Number : 809 Question Id : 48558439639 Question Type : MCQ Option Shuffling : No Is Question Mandatory : No Calculator : None
Response Time : N.A Think Time : N.A Minimum Instruction Time : 0

Correct Marks : 5 Wrong Marks : 1

Question Key Details :

Key	Value
Comprehension	MCQ

'यूनीकास्ट' का संबंध किससे है ?

- (1) एक तरफा संचार
- (2) दो तरफा संचार
- (3) बाह्य संचार
- (4) आंतरिक संचार

Options :

485584158553. 1
485584158554. 2
485584158555. 3
485584158556. 4

Question Number : 810 Question Id : 48558439640 Question Type : MCQ Option Shuffling : No Is Question Mandatory : No Calculator : None
Response Time : N.A Think Time : N.A Minimum Instruction Time : 0
Correct Marks : 5 Wrong Marks : 1

Question Key Details :

Key	Value
Comprehension	MCQ

Match List - I with List - II.

List - I

- (A) Magic Bullet Theory
(B) Personal Influence Theory
(C) Mass Audience Theory
(D) Uses and Gratifications Theory

List - II

- (I) Paul Lazarsfeld
(II) Elihu Katz
(III) Harold Lasswell
(IV) Herbert Blumer

Choose the correct answer from the options given below :

- (1) (A)-(III), (B)-(II), (C)-(IV*), (D)-(I)
(2) (A)-(II), (B)-(III), (C)-(IV), (D)-(I)
(3) (A)-(III), (B)-(I), (C)-(IV), (D)-(II)
(4) (A)-(III), (B)-(IV), (C)-(II), (D)-(I)

Options :

485584158557. 1
485584158558. 2
485584158559. 3
485584158560. 4

Question Number : 810 Question Id : 48558439640 Question Type : MCQ Option Shuffling : No Is Question Mandatory : No Calculator : None
Response Time : N.A Think Time : N.A Minimum Instruction Time : 0
Correct Marks : 5 Wrong Marks : 1

Question Key Details :

Key	Value
Comprehension	MCQ

सूची - I के साथ सूची - II का मिलान कीजिए।

सूची - I

- (A) मैजिक बुलेट थ्योरी
(B) पर्सनल इन्फ्लुएंस थ्योरी
(C) मास ऑडियंस थ्योरी
(D) यूजेज़ एंड ग्रेटिफ़ेशन थ्योरी

सूची - II

- (I) पॉल लेज़र्सफील्ड
(II) एलिहू काट्ज़
(III) हैरोल्ड लॉसवेल
(IV) हर्बर्ट ब्लुमर

नीचे दिए गए विकल्पों में से सही उत्तर का चयन कीजिए :

- (1) (A)-(III), (B)-(II), (C)-(IV*) (D)-(I)
(2) (A)-(II), (B)-(III), (C)-(IV), (D)-(I)
(3) (A)-(III), (B)-(I), (C)-(IV), (D)-(II)
(4) (A)-(III), (B)-(IV), (C)-(II), (D)-(I)

Options :

485584158557. 1
485584158558. 2

485584158559. 3

485584158560. 4

Question Number : 811 Question Id : 48558439641 Question Type : MCQ Option Shuffling : No Is Question Mandatory : No Calculator : None
Response Time : N.A Think Time : N.A Minimum Instruction Time : 0

Correct Marks : 5 Wrong Marks : 1

Question Key Details :

Key	Value
Comprehension	MCQ

Orson Welles is the author/scriptwriter of the famous radio play :

- (1) War of the Worlds
- (2) War in Nazi Germany
- (3) War of the Super Powers
- (4) Cold War

Options :

485584158561. 1

485584158562. 2

485584158563. 3

485584158564. 4

Question Number : 811 Question Id : 48558439641 Question Type : MCQ Option Shuffling : No Is Question Mandatory : No Calculator : None

Response Time : N.A Think Time : N.A Minimum Instruction Time : 0

Correct Marks : 5 Wrong Marks : 1

Question Key Details :

Key	Value
Comprehension	MCQ

किस प्रसिद्ध रेडियो नाटक के लेखक/पटकथा लेखक ओर्सन वेल्स हैं ?

- (1) वार ऑफ द वर्ल्ड्स
- (2) वार इन नाज़ी जर्मनी
- (3) वार ऑफ द सुपर पावर्स
- (4) कोल्ड वार

Options :

485584158561. 1

485584158562. 2

485584158563. 3

485584158564. 4

Question Number : 812 Question Id : 48558439642 Question Type : MCQ Option Shuffling : No Is Question Mandatory : No Calculator : None

Response Time : N.A Think Time : N.A Minimum Instruction Time : 0

Correct Marks : 5 Wrong Marks : 1

Question Key Details :

Key	Value
Comprehension	MCQ

The full form of VOIP is :

- (1) Voice of International Protocol
- (2) Voice of Internet Power
- (3) Voice Over Internet Protocol
- (4) Voice Over Internal Protocol

Options :

485584158565. 1

485584158566. 2

485584158567. 3

Question Number : 812 Question Id : 48558439642 Question Type : MCQ Option Shuffling : No Is Question Mandatory : No Calculator : None
 Response Time : N.A Think Time : N.A Minimum Instruction Time : 0
 Correct Marks : 5 Wrong Marks : 1
 Question Key Details :

Key	Value
Comprehension	MCQ

VOIP का पूर्ण स्वरूप क्या है :

- (1) वॉइस ऑफ इंटरनेशनल प्रोटोकॉल
- (2) वॉइस ऑफ इंटरनेट पावर
- (3) वॉइस ओवर इंटरनेट प्रोटोकॉल
- (4) वॉइस ओवर इंटरनेट प्रोटोकॉल

Options :

485584158565. 1
 485584158566. 2
 485584158567. 3
 485584158568. 4

Question Number : 813 Question Id : 48558439643 Question Type : MCQ Option Shuffling : No Is Question Mandatory : No Calculator : None
 Response Time : N.A Think Time : N.A Minimum Instruction Time : 0
 Correct Marks : 5 Wrong Marks : 1
 Question Key Details :

Key	Value
Comprehension	MCQ

Which of the following is not an acceptable audio aspect of a shot ?

- (1) Speech
- (2) Sound effect
- (3) Silence
- (4) Noise

Options :

485584158569. 1
 485584158570. 2
 485584158571. 3
 485584158572. 4

Question Number : 813 Question Id : 48558439643 Question Type : MCQ Option Shuffling : No Is Question Mandatory : No Calculator : None
 Response Time : N.A Think Time : N.A Minimum Instruction Time : 0
 Correct Marks : 5 Wrong Marks : 1

Question Key Details :

Key	Value
Comprehension	MCQ

निम्नलिखित में से कौन-सा चित्रफोटो का एक स्वीकार्य श्रव्य पहलू नहीं है ?

- (1) भाषण
- (2) ध्वनि प्रभाव
- (3) मौन
- (4) शोर

Options :

485584158569. 1
 485584158570. 2

485584158571. 3
485584158572. 4

Question Number : 814 Question Id : 48558439644 Question Type : MCQ Option Shuffling : No Is Question Mandatory : No Calculator : None
Response Time : N.A Think Time : N.A Minimum Instruction Time : 0
Correct Marks : 5 Wrong Marks : 1
Question Key Details :

Key	Value
Comprehension	MCQ

Match List - I with List - II.

List - I	List - II
(A) Vijaya Vauhini	(I) Pune
(B) New Theatres	(II) Mumbai
(C) Bombay Talkies	(III) Chennai
(D) Prabhat Studio	(IV) Kolkata

Choose the correct answer from the options given below :

- (1) (A)-(IV), (B)-(III), (C)-(I), (D)-(II)
- (2) (A)-(II), (B)-(IV), (C)-(III), (D)-(I)
- (3) (A)-(IV), (B)-(III), (C)-(II), (D)-(I)
- (4) (A)-(III), (B)-(IV), (C)-(II), (D)-(I)

Options :

485584158573. 1
485584158574. 2
485584158575. 3
485584158576. 4

Question Number : 814 Question Id : 48558439644 Question Type : MCQ Option Shuffling : No Is Question Mandatory : No Calculator : None
Response Time : N.A Think Time : N.A Minimum Instruction Time : 0

Correct Marks : 5 Wrong Marks : 1

Question Key Details :

Key	Value
Comprehension	MCQ

सूची - I के साथ सूची - II का मिलान कीजिए।

सूची - I	सूची - II
(A) विजय वाहिनी	(I) पुणे
(B) न्यू थिएटर्स	(II) मुंबई
(C) बॉम्बे टाकीज	(III) चेन्नई
(D) प्रभात स्टूडियो	(IV) कोलकाता

नीचे दिए गए विकल्पों में से सही उत्तर का चयन कीजिए :

- (1) (A)-(IV), (B)-(III), (C)-(I), (D)-(II)
- (2) (A)-(II), (B)-(IV), (C)-(III), (D)-(I)
- (3) (A)-(IV), (B)-(III), (C)-(II), (D)-(I)
- (4) (A)-(III), (B)-(IV), (C)-(II), (D)-(I)

Options :

485584158573. 1
485584158574. 2
485584158575. 3
485584158576. 4

Question Number : 815 Question Id : 48558439645 Question Type : MCQ Option Shuffling : No Is Question Mandatory : No Calculator : None
Response Time : N.A Think Time : N.A Minimum Instruction Time : 0

Correct Marks : 5 Wrong Marks : 1

Question Key Details :

Key	Value
Comprehension	MCQ

Lionel Fielden was the first Director-General of :

- (1) BBC
- (2) All India Radio
- (3) Voice of America
- (4) Doordarshan

Options :

485584158577. 1
485584158578. 2
485584158579. 3
485584158580. 4

Question Number : 815 Question Id : 48558439645 Question Type : MCQ Option Shuffling : No Is Question Mandatory : No Calculator : None
Response Time : N.A Think Time : N.A Minimum Instruction Time : 0

Correct Marks : 5 Wrong Marks : 1

Question Key Details :

Key	Value
Comprehension	MCQ

लॉर्डनेल फील्डन किसके प्रथम महानिदेशक थे ?

- (1) बी.बी.सी.
- (2) ऑल इण्डिया रेडियो
- (3) वॉयस ऑफ अमेरिका
- (4) दूरदर्शन

Options :

485584158577. 1
485584158578. 2
485584158579. 3
485584158580. 4

Question Number : 816 Question Id : 48558439646 Question Type : MCQ Option Shuffling : No Is Question Mandatory : No Calculator : None
Response Time : N.A Think Time : N.A Minimum Instruction Time : 0

Correct Marks : 5 Wrong Marks : 1

Question Key Details :

Key	Value
Comprehension	MCQ

Identify the news paper which is NOT a tabloid in its format and contents :

- (1) Today
- (2) Mid-Day
- (3) The Asian Age
- (4) The Mumbai Mirror

Options :

485584158581. 1
485584158582. 2
485584158583. 3
485584158584. 4

Question Number : 816 Question Id : 48558439646 Question Type : MCQ Option Shuffling : No Is Question Mandatory : No Calculator : None
Response Time : N.A Think Time : N.A Minimum Instruction Time : 0
Correct Marks : 5 Wrong Marks : 1
Question Key Details :

Key	Value
Comprehension	MCQ

उस अखबार को पहचानिए जो फॉर्मेट और विषयवस्तु के हिसाब से टैबलॉइड नहीं है :

- (1) टूडे
- (2) मिड-डे
- (3) द एशियन एज
- (4) द मुम्बई मिरर

Options :

485584158581. 1
485584158582. 2
485584158583. 3
485584158584. 4

Question Number : 817 Question Id : 48558439647 Question Type : MCQ Option Shuffling : No Is Question Mandatory : No Calculator : None
Response Time : N.A Think Time : N.A Minimum Instruction Time : 0
Correct Marks : 5 Wrong Marks : 1
Question Key Details :

Key	Value
Comprehension	MCQ

Identify the item which is written in a light vein on the Editorial Page :

- (1) Letters to the Editor
- (2) Leader Article
- (3) Special Article
- (4) Middle

Options :

485584158585. 1
485584158586. 2
485584158587. 3
485584158588. 4

Question Number : 817 Question Id : 48558439647 Question Type : MCQ Option Shuffling : No Is Question Mandatory : No Calculator : None
Response Time : N.A Think Time : N.A Minimum Instruction Time : 0
Correct Marks : 5 Wrong Marks : 1
Question Key Details :

Key	Value
Comprehension	MCQ

उस मद को पहचानिए जो सम्पादकीय पृष्ठ पर हल्के अंदाज में लिखा जाता है :

- (1) संपादक के नाम पत्र
- (2) अग्रणी आलेख
- (3) विशेष आलेख
- (4) मिडल

Options :

485584158585. 1
485584158586. 2
485584158587. 3
485584158588. 4

Question Number : 818 Question Id : 48558439648 Question Type : MCQ Option Shuffling : No Is Question Mandatory : No Calculator : None
Response Time : N.A Think Time : N.A Minimum Instruction Time : 0
Correct Marks : 5 Wrong Marks : 1

Question Key Details :

Key	Value
Comprehension	MCQ

The first live-televised war of the world was :

- (1) Kargil War
- (2) Gulf War I
- (3) Vietnam War
- (4) Russo-Ukraine War

Options :

485584158589. 1
485584158590. 2
485584158591. 3
485584158592. 4

Question Number : 818 Question Id : 48558439648 Question Type : MCQ Option Shuffling : No Is Question Mandatory : No Calculator : None
Response Time : N.A Think Time : N.A Minimum Instruction Time : 0
Correct Marks : 5 Wrong Marks : 1

Question Key Details :

Key	Value
Comprehension	MCQ

टेलीविजन पर सीधा प्रसारित विश्व का प्रथम युद्ध कौन-सा था ?

- (1) कारगिल युद्ध
- (2) खाड़ी युद्ध
- (3) वियतनाम युद्ध
- (4) रूस-यूक्रेन युद्ध

Options :

485584158589. 1
485584158590. 2
485584158591. 3
485584158592. 4

Question Number : 819 Question Id : 48558439649 Question Type : MCQ Option Shuffling : No Is Question Mandatory : No Calculator : None
Response Time : N.A Think Time : N.A Minimum Instruction Time : 0
Correct Marks : 5 Wrong Marks : 1

Question Key Details :

Key	Value
Comprehension	MCQ

Which amongst the following is not a type of lense ?

- (1) Wide angle
- (2) Normal
- (3) Telephoto
- (4) Teleprompter

Options :

485584158593. 1
485584158594. 2
485584158595. 3
485584158596. 4

Question Number : 819 Question Id : 48558439649 Question Type : MCQ Option Shuffling : No Is Question Mandatory : No Calculator : None
Response Time : N.A Think Time : N.A Minimum Instruction Time : 0

Correct Marks : 5 Wrong Marks : 1

Question Key Details :

Key	Value
Comprehension	MCQ

निम्नलिखित में से कौन-सा लेंस का प्रकार नहीं है ?

- (1) वाइड एंगल
- (2) सामान्य
- (3) टेलीफोटो
- (4) टेलीप्रोम्टर

Options :

485584158593. 1

485584158594. 2

485584158595. 3

485584158596. 4

Question Number : 820 Question Id : 48558439650 Question Type : MCQ Option Shuffling : No Is Question Mandatory : No Calculator : None
Response Time : N.A Think Time : N.A Minimum Instruction Time : 0

Correct Marks : 5 Wrong Marks : 1

Question Key Details :

Key	Value
Comprehension	MCQ

Match List - I with List - II.

List - I

(Name of Editing Tool)

(A) Cut

(B) Wipe

(C) Bleach

(D) Freeze

List - II

(Transition effect)

(I) Bar travels across the frame

(II) Gradual increase in brightness leading to washout

(III) Instantaneous replacement of shot

(IV) Dramatic pause

Choose the **correct** answer from the options given below :

(1) (A)-(III), (B)-(I), (C)-(II), (D)-(IV)

(2) (A)-(III), (B)-(II), (C)-(I), (D)-(IV)

(3) (A)-(I), (B)-(II), (C)-(III), (D)-(IV)

(4) (A)-(IV), (B)-(III), (C)-(II), (D)-(I)

Options :

485584158597. 1

485584158598. 2

485584158599. 3

485584158600. 4

Question Number : 820 Question Id : 48558439650 Question Type : MCQ Option Shuffling : No Is Question Mandatory : No Calculator : None
Response Time : N.A Think Time : N.A Minimum Instruction Time : 0

Correct Marks : 5 Wrong Marks : 1

Question Key Details :

Key	Value
Comprehension	MCQ

सूची - I के साथ सूची - II का मिलान कीजिए।

सूची - I	सूची - II
संपादन युक्ति	संक्रमण प्रभाव
(A) कट	(I) फ्रेम के समानांतर गुजरती छड़
(B) वाइप	(II) चमक में क्रमिक वृद्धि जो वॉशआउट का कारण बनती है
(C) ब्लिच	(III) चित्र का तत्क्षण प्रतिस्थापन
(D) फ्रीज़	(IV) नाटकीय विराम

नीचे दिए गए विकल्पों में से सही उत्तर का चयन कीजिए :

- (1) (A)-(III), (B)-(I), (C)-(II), (D)-(IV)
- (2) (A)-(III), (B)-(II), (C)-(I), (D)-(IV)
- (3) (A)-(I), (B)-(II), (C)-(III), (D)-(IV)
- (4) (A)-(IV), (B)-(III), (C)-(II), (D)-(I)

Options :

485584158597. 1
485584158598. 2
485584158599. 3
485584158600. 4

Question Number : 821 Question Id : 48558439651 Question Type : MCQ Option Shuffling : No Is Question Mandatory : No Calculator : None
Response Time : N.A Think Time : N.A Minimum Instruction Time : 0
Correct Marks : 5 Wrong Marks : 1

Question Key Details :

Key	Value
Comprehension	MCQ

Match List - I with List - II.

List - I	List - II
(Form of advertising)	(Content and Objective)
(A) Public Service Advertising	(I) Personal form of advertising
(B) Direct Mail	(II) Competitive market
(C) Informational Advertising	(III) Social awareness
(D) Comparative Advertising	(IV) New product is introduced

Choose the correct answer from the options given below :

- (1) (A)-(I), (B)-(II), (C)-(III), (D)-(IV)
- (2) (A)-(II), (B)-(III), (C)-(IV), (D)-(I)
- (3) (A)-(I), (B)-(III), (C)-(IV), (D)-(II)
- (4) (A)-(III), (B)-(I), (C)-(IV), (D)-(II)

Options :

485584158601. 1
485584158602. 2
485584158603. 3
485584158604. 4

Question Number : 821 Question Id : 48558439651 Question Type : MCQ Option Shuffling : No Is Question Mandatory : No Calculator : None
Response Time : N.A Think Time : N.A Minimum Instruction Time : 0
Correct Marks : 5 Wrong Marks : 1

Question Key Details :

Key	Value
Comprehension	MCQ

सूची - I के साथ सूची - II का मिलान कीजिए।

सूची - I

विज्ञापन का स्वरूप

- (A) लोक सेवा विज्ञापन
 (B) सीधी मेल
 (C) सूचनापरक विज्ञापन
 (D) तुलनापरक विज्ञापन

सूची - II

संदर्भ और उद्देश्य

- (I) विज्ञापन का व्यक्तिगत स्वरूप
 (II) स्पर्धी बाजार
 (III) सामाजिक जागरूकता
 (IV) नया उत्पाद प्रस्तुत किया जाता है

नीचे दिए गए विकल्पों में से सही उत्तर का चयन कीजिए :

- (1) (A)-(I), (B)-(II), (C)-(III), (D)-(IV)
 (2) (A)-(II), (B)-(III), (C)-(IV), (D)-(I)
 (3) (A)-(I), (B)-(III), (C)-(IV), (D)-(II)
 (4) (A)-(III), (B)-(I), (C)-(IV), (D)-(II)

Options :

485584158601. 1
 485584158602. 2
 485584158603. 3
 485584158604. 4

Question Number : 822 Question Id : 48558439652 Question Type : MCQ Option Shuffling : No Is Question Mandatory : No Calculator : None
 Response Time : N.A Think Time : N.A Minimum Instruction Time : 0
 Correct Marks : 5 Wrong Marks : 1

Question Key Details :

Key	Value
Comprehension	MCQ

Identify the advantages of Radio Advertising :

- (A) They deliver the message immediately
 (B) They have very high frequency even in a single day
 (C) It has a captive audience
 (D) It has a local appeal
 (E) It is a costly but effective production

Choose the correct answer from the options given below :

- (1) (B), (C), (D), (E) Only
 (2) (A), (C), (D), (E) Only
 (3) (A), (D), (E) Only
 (4) (A), (B), (C), (D) Only

Options :

485584158605. 1
 485584158606. 2
 485584158607. 3
 485584158608. 4

Question Number : 822 Question Id : 48558439652 Question Type : MCQ Option Shuffling : No Is Question Mandatory : No Calculator : None
 Response Time : N.A Think Time : N.A Minimum Instruction Time : 0
 Correct Marks : 5 Wrong Marks : 1

Question Key Details :

Key	Value

रेडियो विज्ञापन के लाभ पहचानिए :

- (A) वे संदेश तुरंत पहुँचाते हैं।
- (B) उनकी एक दिन में भी बहुत अधिक बारंबारता होती है।
- (C) इसके विमोहित श्रोता होते हैं।
- (D) इसकी स्थानीय अपील होती है।
- (E) यह खर्चीला लेकिन प्रभावी उत्पाद है।

नीचे दिए गए विकल्पों में से सही उत्तर का चयन कीजिए :

- (1) केवल (B), (C), (D), (E)
- (2) केवल (A), (C), (D), (E)
- (3) केवल (A), (D), (E)
- (4) केवल (A), (B), (C), (D)

Options :

- 485584158605. 1
- 485584158606. 2
- 485584158607. 3
- 485584158608. 4

Question Number : 823 Question Id : 48558439653 Question Type : MCQ Option Shuffling : No Is Question Mandatory : No Calculator : None

Response Time : N.A Think Time : N.A Minimum Instruction Time : 0

Correct Marks : 5 Wrong Marks : 1

Question Key Details :

Key	Value
Comprehension	MCQ

Identify the film whose script went through 12 drafts and took 17 years to the production stage ?

- (1) City Lights
- (2) Pyaasa
- (3) Gandhi
- (4) Mughal-e-Azam

Options :

- 485584158609. 1
- 485584158610. 2
- 485584158611. 3
- 485584158612. 4

Question Number : 823 Question Id : 48558439653 Question Type : MCQ Option Shuffling : No Is Question Mandatory : No Calculator : None

Response Time : N.A Think Time : N.A Minimum Instruction Time : 0

Correct Marks : 5 Wrong Marks : 1

Question Key Details :

Key	Value
Comprehension	MCQ

उस फिल्म को पहचानिए, जिसकी पटकथा के 12 मसौदे बने और उत्पादन अवस्था तक पहुँचने में 17 वर्ष लगे :

- (1) सिटी लाइट्स
- (2) प्यासा
- (3) गाँधी
- (4) मुगल-ए-आज़म

Options :

485584158609. 1
485584158610. 2
485584158611. 3
485584158612. 4

Question Number : 824 Question Id : 48558439654 Question Type : MCQ Option Shuffling : No Is Question Mandatory : No Calculator : None Response Time : N.A Think Time : N.A Minimum Instruction Time : 0

Correct Marks : 5 Wrong Marks : 1

Question Key Details :

Key	Value
Comprehension	MCQ

A Headline which stretches across all columns in a newspaper is called :

- (1) Banner headline
- (2) Masthead
- (3) Crossline
- (4) Kicker

Options :

485584158613. 1
485584158614. 2
485584158615. 3
485584158616. 4

Question Number : 824 Question Id : 48558439654 Question Type : MCQ Option Shuffling : No Is Question Mandatory : No Calculator : None Response Time : N.A Think Time : N.A Minimum Instruction Time : 0

Correct Marks : 5 Wrong Marks : 1

Question Key Details :

Key	Value
Comprehension	MCQ

वह शीर्षक जो अखबार के सभी स्तंभों में फैला हो _____ कहलाता है।

- (1) पताका शीर्षक
- (2) समाचार पत्र शीर्षक
- (3) क्रोसलाइन
- (4) किकर

Options :

485584158613. 1
485584158614. 2
485584158615. 3
485584158616. 4

Question Number : 825 Question Id : 48558439655 Question Type : MCQ Option Shuffling : No Is Question Mandatory : No Calculator : None Response Time : N.A Think Time : N.A Minimum Instruction Time : 0

Correct Marks : 5 Wrong Marks : 1

Question Key Details :

Key	Value
-----	-------

Which among the following is NOT a scheduling strategy for television programming ?

- (1) Bridging
- (2) Coldswitching
- (3) Hammocking
- (4) Teaming

Options :

485584158617. 1
485584158618. 2
485584158619. 3
485584158620. 4

Question Number : 825 Question Id : 48558439655 Question Type : MCQ Option Shuffling : No Is Question Mandatory : No Calculator : None Response Time : N.A Think Time : N.A Minimum Instruction Time : 0

Correct Marks : 5 Wrong Marks : 1

Question Key Details :

Key	Value
Comprehension	MCQ

निम्नलिखित में से कौन-सी टेलीविजन कार्यक्रमों की सूचीनिर्धारण रणनीति नहीं है ?

- (1) सामाचार सेतु
- (2) कोल्डस्वीचिंग
- (3) हैमॉकिंग
- (4) टीमिंग

Options :

485584158617. 1
485584158618. 2
485584158619. 3
485584158620. 4

Sub-Section Number :

2

Sub-Section Id :

4855842947

Question Shuffling Allowed :

No

Is Section Default? :

null

Question Number : 826 Question Id : 48558439656 Question Type : MCQ Option Shuffling : No Is Question Mandatory : No Calculator : None Response Time : N.A Think Time : N.A Minimum Instruction Time : 0

Correct Marks : 5 Wrong Marks : 1

Question Key Details :

Key	Value
Comprehension	Compl

Read the following passage and answer the question that follow :

In cinema, the way an actor's performance is presented matters a lot, unlike on stage. On stage actor is the master of his/her own performance, but not in cinema. Whether he/she is to be presented in close up or long shot, in profile view or in a frontal view, what make up and costume he/she is going to wear, how will he/she be lit up are various creative decisions that are taken by the others and affect the quality of presentation of his performance.

Depending upon the character and genre of film making, actors are called as heroes, heroine, villain, character actor, sidekick of the hero/heroine, the comedian/comedienne etc. These labels indicate their importance and position in the story. Over the years Indian mainstream cinema has set pattern of story telling with stock characters and situations, hence their heirarchical system prevailed. The basic difference between an actor and a star is that an actor is known for his/her acting ability, whereas a star is primarily known for the appeal of his personality. Actor is capable of playing variety of roles, whereas star usually plays himself. Indian film industry is very star driven,

A popular star is considered a safe proposition and attracts financiers. During his hey days every star commands a certain audience that will come and watch the film for him/her.

A film actor is special kind of a human being. Actors give life to a characters dreamt by the writer and directors. Audience form strong emotional connection with them.

In which kind of situation an actor will have more control on his/her performance ?

- (1) Small Screen
- (2) Cinema
- (3) Theater
- (4) Comedy

Options :

- 485584158621. 1
- 485584158622. 2
- 485584158623. 3
- 485584158624. 4

Question Number : 826 Question Id : 48558439656 Question Type : MCQ Option Shuffling : No Is Question Mandatory : No Calculator : None

Response Time : N.A Think Time : N.A Minimum Instruction Time : 0

Correct Marks : 5 Wrong Marks : 1

Question Key Details :

Key	Value
Comprehension	Comp1

निम्नलिखित गद्यांश को पढ़कर पूछे गए प्रश्न का उत्तर दीजिए :

सिनेमा में नाट्य मंच से विपरीत, अभिनेता की प्रस्तुतिकरण का तरीका बहुत अहमियत रखता है। नाट्यमंच पर अभिनेता अपने प्रदर्शन का विशेषज्ञ होता है, लेकिन सिनेमा में नहीं। उसे क्लोज-अप में या लम्बे शोट में, प्रोफाइल व्यू में या फ्रंटल व्यू में प्रस्तुत करना है, उसका श्रृंगार और पोशाक कैसी होगी, उस पर प्रकाश व्यवस्था कैसी होगी, जैसे विभिन्न फैसले अन्य लोगों द्वारा लिए जाते हैं और उसकी प्रस्तुति की गुणवत्ता को प्रभावित करते हैं। लोकप्रिय अभिनेता को सुरक्षित पूर्वसर्ग माना जाता है और वित्तदाओं को आकर्षित करता है। अपने स्वर्णकाल के दौरान प्रत्येक अभिनेता के निश्चित दर्शक होते हैं जो उसी की वजह से फिल्म रखने आते हैं। फिल्मी अभिनेता विशेष प्रकार का व्यक्ति होता है। अभिनेता लेखक और-निर्देशकों के सपनों के पात्रों को उनके साथ जीवंत बनाते हैं। दर्शक उनके साथ प्रबल भावनात्मक संबंध बनाते हैं।

फिल्म निर्माण में चरित्र और शैली के आधार पर, अभिनेताओं को नायक, नायिका, खलनायक, चरित्र अभिनेता, नायक/नायिका का साथी, हास्य अभिनेता/कॉमेडियन आदि कहा जाता है। ये लबल कहानी में उनके महत्व और स्थिति को दर्शाते हैं। पिछले कुछ वर्षों में, भारतीय मुख्यधारा सिनेमा ने स्पर्श पात्रों और स्थितियों के साथ कहानी कहने का पैटर्न निर्धारित किया है और इसलिए उनकी पदानुक्रमित प्रणाली बरकरार रही है। एक अभिनेता और एक स्टार के बीच बुनियादी अंतर यह है कि एक अभिनेता को उसकी कार्य क्षमता के लिए जाना जाता है जबकि एक स्टार को मुख्य रूप से उसके व्यक्तित्व की अपील के लिए जाना जाता है। अभिनेता विभिन्न प्रकार की भूमिकाएँ निभाने में सक्षम होता है, जबकि एक स्टार आमतौर पर स्वयं की ही भूमिका निभाता है। भारतीय फिल्म उद्योग काफी स्टार-प्रेरित है।

किस प्रकार की स्थिति में अभिनेता का अपने निष्पादन पर अधिक नियंत्रण होगा ?

- (1) छोटी स्क्रीन
- (2) सिनेमा
- (3) थियेटर
- (4) कॉमेडी/प्रहसन

Options :

485584158621. 1

485584158622. 2

485584158623. 3

485584158624. 4

Question Number : 827 Question Id : 48558439657 Question Type : MCQ Option Shuffling : No Is Question Mandatory : No Calculator : None

Response Time : N.A Think Time : N.A Minimum Instruction Time : 0

Correct Marks : 5 Wrong Marks : 1

Question Key Details :

Key	Value
Comprehension	Comp1

Read the following passage and answer the question that follow :

In cinema, the way an actor's performance is presented matters a lot, unlike on stage. On stage actor is the master of his/her own performance, but not in cinema. Whether he/she is to be presented in close up or long shot, in profile view or in a frontal view, what make up and costume he/she is going to wear, how will he/she be lit up are various creative decisions that are taken by the others and affect the quality of presentation of his performance.

Depending upon the character and genre of film making, actors are called as heroes, heroine, villain, character actor, sidekick of the hero/heroine, the comedian/comedienne etc. These labels indicate their importance and position in the story. Over the years Indian mainstream cinema has set pattern of story telling with stock characters and situations, hence their heirarchical system prevailed. The basic difference between an actor and a star is that an actor is known for his/her acting ability, whereas a star is primarily known for the appeal of his personality. Actor is capable of playing variety of roles, whereas star usually plays himself. Indian film industry is very star driven,

A popular star is considered a safe proposition and attracts financiers. During his hey days every star commands a certain audience that will come and watch the film for him/her.

A film actor is special kind of a human being. Actors give life to a characters dreamt by the writer and directors. Audience form strong emotional connection with them.

Which amongst the following does not contribute in presentation of performance in cinema ?

- (1) Camera angle
- (2) Make up
- (3) Costume
- (4) Stardom

Options :

485584158625. 1

485584158626. 2

485584158627. 3

485584158628. 4

Question Number : 827 Question Id : 48558439657 Question Type : MCQ Option Shuffling : No Is Question Mandatory : No Calculator : None
Response Time : N.A Think Time : N.A Minimum Instruction Time : 0

Correct Marks : 5 Wrong Marks : 1

Question Key Details :

Key	Value
Comprehension	Compl

निम्नलिखित गद्यांश को पढ़कर पूछे गए प्रश्न का उत्तर दीजिए :

सिनेमा में नाट्य मंच से विपरीत, अभिनेता की प्रस्तुतिकरण का तरीका बहुत अहमियत रखता है। नाट्यमंच पर अभिनेता अपने प्रदर्शन का विशेषज्ञ होता है, लेकिन सिनेमा में नहीं। उसे क्लोज-अप में या लम्बे शोट में, प्रोफाइल व्यू में या फ्रंटल व्यू में प्रस्तुत करना है, उसका श्रृंगार और पोशाक कैसी होगी, उस पर प्रकाश व्यवस्था कैसी होगी, जैसे विभिन्न फैसले अन्य लोगों द्वारा लिए जाते हैं और उसकी प्रस्तुति की गुणवत्ता को प्रभावित करते हैं। लोकप्रिय अभिनेता को सुरक्षित पूर्वसर्ग माना जाता है और वित्तदाओं को आकर्षित करता है। अपने स्वर्णकाल के दौरान प्रत्येक अभिनेता के निश्चित दर्शक होते हैं जो उसी की वजह से फिल्म रखने आते हैं। फिल्मी अभिनेता विशेष प्रकार का व्यक्ति होता है। अभिनेता लेखक और-निर्देशकों के सपनों के पात्रों को उनके साथ जीवंत बनाते हैं। दर्शक उनके साथ प्रबल भावनात्मक संबंध बनाते हैं।

फिल्म निर्माण में चरित्र और शैली के आधार पर, अभिनेताओं को नायक, नायिका, खलनायक, चरित्र अभिनेता, नायक/नायिका का साथी, हास्य अभिनेता/कॉमेडियन आदि कहा जाता है। ये लबल कहानी में उनके महत्व और स्थिति को दर्शाते हैं। पिछले कुछ वर्षों में, भारतीय मुख्यधारा सिनेमा ने स्पर्श पात्रों और स्थितियों के साथ कहानी कहने का पैटर्न निर्धारित किया है और इसलिए उनकी पदानुक्रमित प्रणाली बरकरार रही है। एक अभिनेता और एक स्टार के बीच बुनियादी अंतर यह है कि एक अभिनेता को उसकी कार्य क्षमता के लिए जाना जाता है जबकि एक स्टार को मुख्य रूप से उसके व्यक्तित्व की अपील के लिए जाना जाता है। अभिनेता विभिन्न प्रकार की भूमिकाएँ निभाने में सक्षम होता है, जबकि एक स्टार आमतौर पर स्वयं की ही भूमिका निभाता है। भारतीय फिल्म उद्योग काफी स्टार-प्रेरित है।

निम्नलिखित में से किसका योगदान सिनेमा में निष्पादन के प्रस्तुतीकरण पर नहीं पड़ता ?

- (1) कैमरे का कोण
- (2) बनाव - श्रृंगार
- (3) वेशभूषा
- (4) उत्तम नायकत्व

Options :

485584158625. 1
485584158626. 2
485584158627. 3
485584158628. 4

Question Number : 828 Question Id : 48558439658 Question Type : MCQ Option Shuffling : No Is Question Mandatory : No Calculator : None Response Time : N.A Think Time : N.A Minimum Instruction Time : 0

Correct Marks : 5 Wrong Marks : 1

Question Key Details :

Key	Value
Comprehension	Comp1

Read the following passage and answer the question that follow :

In cinema, the way an actor's performance is presented matters a lot, unlike on stage. On stage actor is the master of his/her own performance, but not in cinema. Whether he/she is to be presented in close up or long shot, in profile view or in a frontal view, what make up and costume he/she is going to wear, how will he/she be lit up are various creative decisions that are taken by the others and affect the quality of presentation of his performance.

Depending upon the character and genre of film making, actors are called as heroes, heroine, villain, character actor, sidekick of the hero/heroine, the comedian/comedienne etc. These labels indicate their importance and position in the story. Over the years Indian mainstream cinema has set pattern of story telling with stock characters and situations, hence their heirarchical system prevailed. The basic difference between an actor and a star is that an actor is known for his/her acting ability, whereas a star is primarily known for the appeal of his personality. Actor is capable of playing variety of roles, whereas star usually plays himself. Indian film industry is very star driven,

A popular star is considered a safe proposition and attracts financiers. During his hey days every star commands a certain audience that will come and watch the film for him/her.

A film actor is special kind of a human being. Actors give life to a characters dreamt by the writer and directors. Audience form strong emotional connection with them.

Actors are called sidekicks because :

- (1) of the positioning of character in the film
- (2) they are not stars
- (3) they are capable of palying various roles
- (4) of their appeal as a personality

Options :

- 485584158629. 1
- 485584158630. 2
- 485584158631. 3
- 485584158632. 4

Question Number : 828 Question Id : 48558439658 Question Type : MCQ Option Shuffling : No Is Question Mandatory : No Calculator : None

Response Time : N.A Think Time : N.A Minimum Instruction Time : 0

Correct Marks : 5 Wrong Marks : 1

Question Key Details :

Key	Value
Comprehension	Compl

निम्नलिखित गद्यांश को पढ़कर पूछे गए प्रश्न का उत्तर दीजिए :

सिनेमा में नाट्य मंच से विपरीत, अभिनेता की प्रस्तुतिकरण का तरीका बहुत अहमियत रखता है। नाट्यमंच पर अभिनेता अपने प्रदर्शन का विशेषज्ञ होता है, लेकिन सिनेमा में नहीं। उसे क्लोज-अप में या लम्बे शोट में, प्रोफाइल व्यू में या फ्रंटल व्यू में प्रस्तुत करना है, उसका श्रृंगार और पोशाक कैसी होगी, उस पर प्रकाश व्यवस्था कैसी होगी, जैसे विभिन्न फैसले अन्य लोगों द्वारा लिए जाते हैं और उसकी प्रस्तुति की गुणवत्ता को प्रभावित करते हैं। लोकप्रिय अभिनेता को सुरक्षित पूर्वसर्ग माना जाता है और वित्तदाओं को आकर्षित करता है। अपने स्वर्णकाल के दौरान प्रत्येक अभिनेता के निश्चित दर्शक होते हैं जो उसी की वजह से फिल्म रखने आते हैं। फिल्मी अभिनेता विशेष प्रकार का व्यक्ति होता है। अभिनेता लेखक और-निर्देशकों के सपनों के पात्रों को उनके साथ जीवंत बनाते हैं। दर्शक उनके साथ प्रबल भावनात्मक संबंध बनाते हैं।

फिल्म निर्माण में चरित्र और शैली के आधार पर, अभिनेताओं को नायक, नायिका, खलनायक, चरित्र अभिनेता, नायक/नायिका का साथी, हास्य अभिनेता/कॉमेडियन आदि कहा जाता है। ये लबल कहानी में उनके महत्व और स्थिति को दर्शाते हैं। पिछले कुछ वर्षों में, भारतीय मुख्यधारा सिनेमा ने स्पर्श पात्रों और स्थितियों के साथ कहानी कहने का पैटर्न निर्धारित किया है और इसलिए उनकी पदानुक्रमित प्रणाली बरकरार रही है। एक अभिनेता और एक स्टार के बीच बुनियादी अंतर यह है कि एक अभिनेता को उसकी कार्य क्षमता के लिए जाना जाता है जबकि एक स्टार को मुख्य रूप से उसके व्यक्तित्व की अपील के लिए जाना जाता है। अभिनेता विभिन्न प्रकार की भूमिकाएँ निभाने में सक्षम होता है, जबकि एक स्टार आमतौर पर स्वयं की ही भूमिका निभाता है। भारतीय फिल्म उद्योग काफी स्टार-प्रेरित है।

अभिनेताओं को घनिष्ठ साथी क्यों कहा जाता है?

- (1) फिल्म में उनके चरित्र को अवस्थिति के कारण
- (2) वे सितारे नहीं होते
- (3) वे विभिन्न प्रकार की भूमिकाएँ निभाने में सक्षम होते हैं
- (4) एक व्यक्तित्व के रूप में आकर्षक होने के कारण

Options :

485584158629. 1
485584158630. 2
485584158631. 3
485584158632. 4

Question Number : 829 Question Id : 48558439659 Question Type : MCQ Option Shuffling : No Is Question Mandatory : No Calculator : None

Response Time : N.A Think Time : N.A Minimum Instruction Time : 0

Correct Marks : 5 Wrong Marks : 1

Question Key Details :

Key	Value
Comprehension	Compl

Read the following passage and answer the question that follow :

In cinema, the way an actor's performance is presented matters a lot, unlike on stage. On stage actor is the master of his/her own performance, but not in cinema. Whether he/she is to be presented in close up or long shot, in profile view or in a frontal view, what make up and costume he/she is going to wear, how will he/she be lit up are various creative decisions that are taken by the others and affect the quality of presentation of his performance.

Depending upon the character and genre of film making, actors are called as heroes, heroine, villain, character actor, sidekick of the hero/heroine, the comedian/comedienne etc. These labels indicate their importance and position in the story. Over the years Indian mainstream cinema has set pattern of story telling with stock characters and situations, hence their heirarchical system prevailed. The basic difference between an actor and a star is that an actor is known for his/her acting ability, whereas a star is primarily known for the appeal of his personality. Actor is capable of playing variety of roles, whereas star usually plays himself. Indian film industry is very star driven,

A popular star is considered a safe proposition and attracts financiers. During his hey days every star commands a certain audience that will come and watch the film for him/her.

A film actor is special kind of a human being. Actors give life to a characters dreamt by the writer and directors. Audience form strong emotional connection with them.

Which is not a characteristic of a star ?

- (1) Star attracts financier
- (2) Star always plays variety of roles
- (3) Star usually plays himself
- (4) Star commands a certain audience

Options :

485584158633. 1

485584158634. 2

485584158635. 3

485584158636. 4

Question Number : 829 Question Id : 48558439659 Question Type : MCQ Option Shuffling : No Is Question Mandatory : No Calculator : None

Response Time : N.A Think Time : N.A Minimum Instruction Time : 0

Correct Marks : 5 Wrong Marks : 1

Question Key Details :

Key	Value
Comprehension	Compl

निम्नलिखित गद्यांश को पढ़कर पूछे गए प्रश्न का उत्तर दीजिए :

सिनेमा में नाट्य मंच से विपरीत, अभिनेता की प्रस्तुतिकरण का तरीका बहुत अहमियत रखता है। नाट्यमंच पर अभिनेता अपने प्रदर्शन का विशेषज्ञ होता है, लेकिन सिनेमा में नहीं। उसे क्लोज-अप में या लम्बे शोट में, प्रोफाइल व्यू में या फ्रंटल व्यू में प्रस्तुत करना है, उसका श्रृंगार और पोशाक कैसी होगी, उस पर प्रकाश व्यवस्था कैसी होगी, जैसे विभिन्न फैसले अन्य लोगों द्वारा लिए जाते हैं और उसकी प्रस्तुति की गुणवत्ता को प्रभावित करते हैं। लोकप्रिय अभिनेता को सुरक्षित पूर्वसर्ग माना जाता है और वित्तदाओं को आकर्षित करता है। अपने स्वर्णकाल के दौरान प्रत्येक अभिनेता के निश्चित दर्शक होते हैं जो उसी की वजह से फिल्म रखने आते हैं। फिल्मी अभिनेता विशेष प्रकार का व्यक्ति होता है। अभिनेता लेखक और-निर्देशकों के सपनों के पात्रों को उनके साथ जीवंत बनाते हैं। दर्शक उनके साथ प्रबल भावनात्मक संबंध बनाते हैं।

फिल्म निर्माण में चरित्र और शैली के आधार पर, अभिनेताओं को नायक, नायिका, खलनायक, चरित्र अभिनेता, नायक/नायिका का साथी, हास्य अभिनेता/कॉमेडियन आदि कहा जाता है। ये लबल कहानी में उनके महत्व और स्थिति को दर्शाते हैं। पिछले कुछ वर्षों में, भारतीय मुख्यधारा सिनेमा ने स्पर्श पात्रों और स्थितियों के साथ कहानी कहने का पैटर्न निर्धारित किया है और इसलिए उनकी पदानुक्रमित प्रणाली बरकरार रही है। एक अभिनेता और एक स्टार के बीच बुनियादी अंतर यह है कि एक अभिनेता को उसकी कार्य क्षमता के लिए जाना जाता है जबकि एक स्टार को मुख्य रूप से उसके व्यक्तित्व की अपील के लिए जाना जाता है। अभिनेता विभिन्न प्रकार की भूमिकाएँ निभाने में सक्षम होता है, जबकि एक स्टार आमतौर पर स्वयं की ही भूमिका निभाता है। भारतीय फिल्म उद्योग काफी स्टार-प्रेरित है।

किसी फिल्मी सितारे में निम्न में से कौन सी विशेषता नहीं है ?

- (1) सितारे वित्तदाताओंको आकर्षित करते हैं।
- (2) सितारे हमेशा विभिन्न भूमिकाएँ निभाते हैं।
- (3) सितारे सामान्यतः अपना ही चरित्र चित्रण करते हैं।
- (4) सितारे कुछ निश्चित दर्शकों पर प्रभावशाली होते हैं।

Options :

485584158633. 1
485584158634. 2
485584158635. 3
485584158636. 4

Question Number : 830 Question Id : 48558439660 Question Type : MCQ Option Shuffling : No Is Question Mandatory : No Calculator : None

Response Time : N.A Think Time : N.A Minimum Instruction Time : 0

Correct Marks : 5 Wrong Marks : 1

Question Key Details :

Key	Value
Comprehension	Comp1

Read the following passage and answer the question that follow :

In cinema, the way an actor's performance is presented matters a lot, unlike on stage. On stage actor is the master of his/her own performance, but not in cinema. Whether he/she is to be presented in close up or long shot, in profile view or in a frontal view, what make up and costume he/she is going to wear, how will he/she be lit up are various creative decisions that are taken by the others and affect the quality of presentation of his performance.

Depending upon the character and genre of film making, actors are called as heroes, heroine, villain, character actor, sidekick of the hero/heroine, the comedian/comedienne etc. These labels indicate their importance and position in the story. Over the years Indian mainstream cinema has set pattern of story telling with stock characters and situations, hence their heirarchical system prevailed. The basic difference between an actor and a star is that an actor is known for his/her acting ability, whereas a star is primarily known for the appeal of his personality. Actor is capable of playing variety of roles, whereas star usually plays himself. Indian film industry is very star driven,

A popular star is considered a safe proposition and attracts financiers. During his hey days every star commands a certain audience that will come and watch the film for him/her.

A film actor is special kind of a human being. Actors give life to a characters dreamt by the writer and directors. Audience form strong emotional connection with them.

An actor is a person who translates the ideas of the _____.

- (1) Writer and Director
- (2) Audience
- (3) Producer
- (4) Make up artist

Options :

485584158637. 1

485584158638. 2

485584158639. 3

485584158640. 4

Question Number : 830 Question Id : 48558439660 Question Type : MCQ Option Shuffling : No Is Question Mandatory : No Calculator : None

Response Time : N.A Think Time : N.A Minimum Instruction Time : 0

Correct Marks : 5 Wrong Marks : 1

Question Key Details :

Key	Value
Comprehension	Comp1

निम्नलिखित गद्यांश को पढ़कर पूछे गए प्रश्न का उत्तर दीजिए :

सिनेमा में नाट्य मंच से विपरीत, अभिनेता की प्रस्तुतिकरण का तरीका बहुत अहमियत रखता है। नाट्यमंच पर अभिनेता अपने प्रदर्शन का विशेषज्ञ होता है, लेकिन सिनेमा में नहीं। उसे क्लोज-अप में या लम्बे शोट में, प्रोफाइल व्यू में या फ्रंटल व्यू में प्रस्तुत करना है, उसका श्रृंगार और पोशाक कैसी होगी, उस पर प्रकाश व्यवस्था कैसी होगी, जैसे विभिन्न फैसले अन्य लोगों द्वारा लिए जाते हैं और उसकी प्रस्तुति की गुणवत्ता को प्रभावित करते हैं। लोकप्रिय अभिनेता को सुरक्षित पूर्वसर्ग माना जाता है और वित्तदाओं को आकर्षित करता है। अपने स्वर्णकाल के दौरान प्रत्येक अभिनेता के निश्चित दर्शक होते हैं जो उसी की वजह से फिल्म रखने आते हैं। फिल्मी अभिनेता विशेष प्रकार का व्यक्ति होता है। अभिनेता लेखक और-निर्देशकों के सपनों के पात्रों को उनके साथ जीवंत बनाते हैं। दर्शक उनके साथ प्रबल भावनात्मक संबंध बनाते हैं।

फिल्म निर्माण में चरित्र और शैली के आधार पर, अभिनेताओं को नायक, नायिका, खलनायक, चरित्र अभिनेता, नायक/नायिका का साथी, हास्य अभिनेता/कॉमेडियन आदि कहा जाता है। ये लबल कहानी में उनके महत्व और स्थिति को दर्शाते हैं। पिछले कुछ वर्षों में, भारतीय मुख्यधारा सिनेमा ने स्पर्श पात्रों और स्थितियों के साथ कहानी कहने का पैटर्न निर्धारित किया है और इसलिए उनकी पदानुक्रमित प्रणाली बरकरार रही है। एक अभिनेता और एक स्टार के बीच बुनियादी अंतर यह है कि एक अभिनेता को उसकी कार्य क्षमता के लिए जाना जाता है जबकि एक स्टार को मुख्य रूप से उसके व्यक्तित्व की अपील के लिए जाना जाता है। अभिनेता विभिन्न प्रकार की भूमिकाएँ निभाने में सक्षम होता है, जबकि एक स्टार आमतौर पर स्वयं की ही भूमिका निभाता है। भारतीय फिल्म उद्योग काफी स्टार-प्रेरित है।

अभिनेता वह व्यक्ति है जो _____ के विचारों को कार्य में परिणत करता है।

- (1) लेखक तथा निर्देशक
- (2) दर्शक
- (3) उत्पादक
- (4) श्रृंगार-सज्जा कलाकार

Options :

485584158637. 1
485584158638. 2
485584158639. 3
485584158640. 4

Sub-Section Number : 3
Sub-Section Id : 4855842948
Question Shuffling Allowed : No
Is Section Default? : null

Question Number : 831 Question Id : 48558439661 Question Type : MCQ Option Shuffling : No Is Question Mandatory : No Calculator : None
Response Time : N.A Think Time : N.A Minimum Instruction Time : 0
Correct Marks : 5 Wrong Marks : 1
Question Key Details :

Key	Value
Comprehension	Comp2

Read the following passage and answer the question that follow :

Today's age can be redefined as another ICE Age. The full form of ICE is Information, Communication and Entertainment. From the era when people could only talk to each other through first hand experience to today's era when we can talk and look at any one from almost all corners of the world. Earlier, information has been a privilege denied to the masses till the early part of twentieth century. The world has shrunk to a 'global village'. Today the spread of mass media has largely removed the cause of complaint as far as the availability of channels for spread of information are concerned. But the question remains about the quality and efficiency of the information, but there is no doubt that media and their capacity of creating and sharing information in many ways has important political and humanist dimensions.

Information Technology has changed the paradigm. Internet has empowered an individual to post data and receive information. It also opens variety of sources for one information. Not only in the field of information, the paradigm shift can also be witnessed in dissemination of information too. Distribution of the information between individual on an unprecedented global scale, rapidity of opinion generation on a local, national and global scale can be witnessed. The socio-political implications of the new information order has strengthened the democracy by providing public space for the widespread debate.

Information technology has contributed in democracy by _____.

- (1) Shrinking the world to global village
- (2) Posting date
- (3) Access to talk from remote areas
- (4) Providing Public Sphere

Options :

- 485584158641. 1
- 485584158642. 2
- 485584158643. 3
- 485584158644. 4

Question Number : 831 Question Id : 48558439661 Question Type : MCQ Option Shuffling : No Is Question Mandatory : No Calculator : None

Response Time : N.A Think Time : N.A Minimum Instruction Time : 0

Correct Marks : 5 Wrong Marks : 1

Question Key Details :

Key	Value
Comprehension	Comp2

निम्नलिखित गद्यांश को पढ़कर पूछे गए प्रश्न का उत्तर दीजिए :

आज के युग को ICE युग के रूप भी पुनः परिभाषित किया जा सकता है। ICE का विस्तृत रूप है सूचना, संप्रेषण तथा मनोरंजन। उस काल के लोग आपस में मिलकर ही एक-दूसरे से बात कर सकते थे, वर्तमान समय में कोई भी किसी दूसरे व्यक्ति से विश्व के किसी भी कोने से बात कर सकता है तथा उसे देख भी सकता है। पूर्वकाल में सूचना एक सुविधा की तरह थी जो जनसमूह को बीसवीं शताब्दी के पूर्वार्द्ध तक प्राप्त नहीं होती थी। सम्पूर्ण विश्व एक वैश्विक ग्राम के रूप में संकुचित हो चुका है। वर्तमान में, जहाँ तक सूचना प्रसार के लिए चैनलों की उपलब्धि का संबंध है, जन संचार के माध्यमों के प्रसार ने एक बड़ी सीमा तक उनके विषय में शिकायतों के कारण को दूर किया है। किंतु सूचनाओं की गुणवत्ता तथा क्षमता के लिए प्रश्न शेष रह जाता है। इसमें कोई शंका नहीं कि संचार के माध्यमों तथा उनकी सूचनाओं के सर्जन बहुत सी विधियों द्वारा साझा करने के महत्वपूर्ण राजनैतिक व मानवीय आयाम हैं।

सूचना प्रौद्योगिकी ने आमूल परिवर्तन किए हैं। इंटरनेट ने व्यक्ति को डाटा पोस्ट करने तथा सूचना ग्रहण करने के लिए सशक्त बनाया है। एक ही सूचना प्राप्त करने के लिए यह विभिन्न स्रोत प्रदान करती है। केवल सूचना के क्षेत्र में ही नहीं, आमूल परिवर्तनों को सूचना के प्रचार-प्रसार में भी देखा जा सकता है। अभूतपूर्व रूप से वैश्विक लोगों के बीच सूचना को जारी करना, स्थानीय, राष्ट्रीय तथा वैश्विक स्तर पर विचारों को उत्पन्न करने की तीव्रता का प्रत्यक्षीकरण किया जा सकता है। नये सूचना क्रम के सामाजिक-राजनैतिक तात्पर्य ने व्यापक वाद-विवाद के लिए सार्वजनिक रूप से स्थान प्रदान करके प्रजातंत्र को सशक्त बनाया है।

सूचना प्रौद्योगिकी ने प्रजातंत्र में _____ के द्वारा योगदान दिया है।

- (1) विश्व को एक वैश्विक ग्राम में संकुचित करना
- (2) दिनांक दर्ज करना
- (3) पिछड़े क्षेत्रों से बात करने का मार्ग बनाना
- (4) सार्वजनिक क्षेत्र प्रदान करना

Options :

485584158641. 1
485584158642. 2
485584158643. 3
485584158644. 4

Question Number : 832 Question Id : 48558439662 Question Type : MCQ Option Shuffling : No Is Question Mandatory : No Calculator : None
Response Time : N.A Think Time : N.A Minimum Instruction Time : 0

Correct Marks : 5 Wrong Marks : 1

Question Key Details :

Key	Value
Comprehension	Comp2

Read the following passage and answer the question that follow :

Today's age can be redefined as another ICE Age. The full form of ICE is Information, Communication and Entertainment. From the era when people could only talk to each other through first hand experience to today's era when we can talk and look at any one from almost all corners of the world. Earlier, information has been a privilege denied to the masses till the early part of twentieth century. The world has shrunk to a 'global village'. Today the spread of mass media has largely removed the cause of complaint as far as the availability of channels for spread of information are concerned. But the question remains about the quality and efficiency of the information, but there is no doubt that media and their capacity of creating and sharing information in many ways has important political and humanist dimensions.

Information Technology has changed the paradigm. Internet has empowered an individual to post data and receive information. It also opens variety of sources for one information. Not only in the field of information, the paradigm shift can also be witnessed in dissemination of information too. Distribution of the information between individual on an unprecedented global scale, rapidity of opinion generation on a local, national and global scale can be witnessed. The socio-political implications of the new information order has strengthened the democracy by providing public space for the widespread debate.

What is meant by 'Global Village' ?

- (1) Global issues can be felt at village level
- (2) Village issues are dealt at global level
- (3) Information revolution has increased the accessibility
- (4) Privilege of information is denied to villagers

Options :

485584158645. 1

485584158646. 2

485584158647. 3

485584158648. 4

Question Number : 832 Question Id : 48558439662 Question Type : MCQ Option Shuffling : No Is Question Mandatory : No Calculator : None
Response Time : N.A Think Time : N.A Minimum Instruction Time : 0

Correct Marks : 5 Wrong Marks : 1

Question Key Details :

Key	Value
Comprehension	Comp2

निम्नलिखित गद्यांश को पढ़कर पूछे गए प्रश्न का उत्तर दीजिए :

आज के युग को ICE युग के रूप भी पुनः परिभाषित किया जा सकता है। ICE का विस्तृत रूप है सूचना, संप्रेषण तथा मनोरंजन। उस काल के लोग आपस में मिलकर ही एक-दूसरे से बात कर सकते थे, वर्तमान समय में कोई भी किसी दूसरे व्यक्ति से विश्व के किसी भी कोने से बात कर सकता है तथा उसे देख भी सकता है। पूर्वकाल में सूचना एक सुविधा की तरह थी जो जनसमूह को बीसवीं शताब्दी के पूर्वार्द्ध तक प्राप्त नहीं होती थी। सम्पूर्ण विश्व एक वैश्विक ग्राम के रूप में संकुचित हो चुका है। वर्तमान में, जहाँ तक सूचान प्रसार के लिए चैनलों की उपलब्धि का संबंध है, जन संचार के माध्यमों के प्रसार ने एक बड़ी सीमा तक उनके विषय में शिकायतों के कारण को दूर किया है। किंतु सूचनाओं की गुणवत्ता तथा क्षमता के लिए प्रश्न शेष रह जाता है। इसमें कोई शंका नहीं कि संचार के माध्यमों तथा उनकी सूचनाओं के सर्जन बहुत सी विधियों द्वारा साक्षात् करने के महत्वपूर्ण राजनैतिक व मानवीय आयाम हैं।

सूचना प्रौद्योगिकी ने आमूल परिवर्तन किए हैं। इंटरनेट ने व्यक्ति को डाटा पोस्ट करने तथा सूचना ग्रहण करने के लिए सशक्त बनाया है। एक ही सूचना प्राप्त करने के लिए यह विभिन्न स्रोत प्रदान करती है। केवल सूचना के क्षेत्र में ही नहीं, आमूल परिवर्तनों को सूचना के प्रचार-प्रसार में भी देखा जा सकता है। अभूतपूर्व रूप से वैश्विक लोगों के बीच सूचना को जारी करना, स्थानीय, राष्ट्रीय तथा वैश्विक स्तर पर विचारों को उत्पन्न करने की तीव्रता का प्रत्यक्षीकरण किया जा सकता है। नये सूचना क्रम के सामाजिक-राजनैतिक तात्पर्य ने व्यापक वाद-विवाद के लिए सार्वजनिक रूप से स्थान प्रदान करके प्रजातंत्र को सशक्त बनाया है।

'विश्व ग्राम' का क्या तात्पर्य है ?

- (1) वैश्विक स्तर के मुद्दों को ग्राम स्तर पर महसूस किया जाता है।
- (2) ग्रामीण मुद्दों को वैश्विक स्तर पर संबोधित किया जाता है।
- (3) सूचना क्रांति ने अभिगम्यता में वृद्धि की है।
- (4) सूचना का विशेषाधिकार ग्रामीणों को प्राप्त नहीं है।

Options :

485584158645. 1
485584158646. 2
485584158647. 3
485584158648. 4

Question Number : 833 Question Id : 48558439663 Question Type : MCQ Option Shuffling : No Is Question Mandatory : No Calculator : None
Response Time : N.A Think Time : N.A Minimum Instruction Time : 0
Correct Marks : 5 Wrong Marks : 1

Question Key Details :

Key	Value
Comprehension	Comp2

Read the following passage and answer the question that follow :

Today's age can be redefined as another ICE Age. The full form of ICE is Information, Communication and Entertainment. From the era when people could only talk to each other through first hand experience to today's era when we can talk and look at any one from almost all corners of the world. Earlier, information has been a privilege denied to the masses till the early part of twentieth century. The world has shrunked to a 'global village'. Today the spread of mass media has largely removed the cause of complaint as far as the availability of channels for spread of information are concerned. But the question remains about the quality and efficiency of the information, but there is no doubt that media and their capacity of creating and sharing information in many ways has important political and humanist dimensions.

Information Technology has changed the paradigm. Internet has empowered an individual to post data and receive information. It also opens variety of sources for one information. Not only in the field of information, the paradigm shift can also be witnessed in dissemination of information too. Distribution of the information between individual on an unprecedented global scale, rapidity of opinion generation on a local, national and global scale can be witnessed. The socio-political implications of the new information order has strengthened the democracy by providing public space for the widespread debate.

Information revolution has led to which concerns ?

- (1) Excess data usage
- (2) Quality and efficacy of information
- (3) Information has elements of entertainment
- (4) Signal issues

Options :

- 485584158649. 1
- 485584158650. 2
- 485584158651. 3
- 485584158652. 4

Question Number : 833 Question Id : 48558439663 Question Type : MCQ Option Shuffling : No Is Question Mandatory : No Calculator : None
Response Time : N.A Think Time : N.A Minimum Instruction Time : 0
Correct Marks : 5 Wrong Marks : 1

Question Key Details :

Key	Value
Comprehension	Comp2

निम्नलिखित गद्यांश को पढ़कर पूछे गए प्रश्न का उत्तर दीजिए :

आज के युग को ICE युग के रूप भी पुनः परिभाषित किया जा सकता है। ICE का विस्तृत रूप है सूचना, संप्रेषण तथा मनोरंजन। उस काल के लोग आपस में मिलकर ही एक-दूसरे से बात कर सकते थे, वर्तमान समय में कोई भी किसी दूसरे व्यक्ति से विश्व के किसी भी कोने से बात कर सकता है तथा उसे देख भी सकता है। पूर्वकाल में सूचना एक सुविधा की तरह थी जो जनसमूह को बीसवीं शताब्दी के पूर्वार्द्ध तक प्राप्त नहीं होती थी। सम्पूर्ण विश्व एक वैश्विक ग्राम के रूप में संकुचित हो चुका है। वर्तमान में, जहाँ तक सूचान प्रसार के लिए चैनलों की उपलब्धि का संबंध है, जन संचार के माध्यमों के प्रसार ने एक बड़ी सीमा तक उनके विषय में शिकायतों के कारण को दूर किया है। किंतु सूचनाओं की गुणवत्ता तथा क्षमता के लिए प्रश्न शेष रह जाता है। इसमें कोई शंका नहीं कि संचार के माध्यमों तथा उनकी सूचनाओं के सर्जन बहुत सी विधियों द्वारा साझा करने के महत्वपूर्ण राजनैतिक व मानवीय आयाम हैं।

सूचना प्रौद्योगिकी ने आमूल परिवर्तन किए हैं। इंटरनेट ने व्यक्ति को डाटा पोस्ट करने तथा सूचना ग्रहण करने के लिए सशक्त बनाया है। एक ही सूचना प्राप्त करने के लिए यह विभिन्न स्रोत प्रदान करती है। केवल सूचना के क्षेत्र में ही नहीं, आमूल परिवर्तनों को सूचना के प्रचार-प्रसार में भी देखा जा सकता है। अभूतपूर्व रूप से वैश्विक लोगों के बीच सूचना को जारी करना, स्थानीय, राष्ट्रीय तथा वैश्विक स्तर पर विचारों को उत्पन्न करने की तीव्रता का प्रत्यक्षीकरण किया जा सकता है। नये सूचना क्रम के सामाजिक-राजनैतिक तात्पर्य ने व्यापक वाद-विवाद के लिए सार्वजनिक रूप से स्थान प्रदान करके प्रजातंत्र को सशक्त बनाया है।

सूचना क्रांति ने किन सरोकारों को अग्रसर किया है?

- (1) डाटा का अत्यधिक उपयोग
- (2) सूचना की गुणवत्ता तथा क्षमता
- (3) सूचना में मनोरंजन का तत्व होता है
- (4) संकेतकों के मुद्दे

Options :

485584158649. 1

485584158650. 2

485584158651. 3

485584158652. 4

Question Number : 834 Question Id : 48558439664 Question Type : MCQ Option Shuffling : No Is Question Mandatory : No Calculator : None

Response Time : N.A Think Time : N.A Minimum Instruction Time : 0

Correct Marks : 5 Wrong Marks : 1

Question Key Details :

Key	Value
Comprehension	Comp2

Read the following passage and answer the question that follow :

Today's age can be redefined as another ICE Age. The full form of ICE is Information, Communication and Entertainment. From the era when people could only talk to each other through first hand experience to today's era when we can talk and look at any one from almost all corners of the world. Earlier, information has been a privilege denied to the masses till the early part of twentieth century. The world has shrunk to a 'global village'. Today the spread of mass media has largely removed the cause of complaint as far as the availability of channels for spread of information are concerned. But the question remains about the quality and efficiency of the information, but there is no doubt that media and their capacity of creating and sharing information in many ways has important political and humanist dimensions.

Information Technology has changed the paradigm. Internet has empowered an individual to post data and receive information. It also opens variety of sources for one information. Not only in the field of information, the paradigm shift can also be witnessed in dissemination of information too. Distribution of the information between individual on an unprecedented global scale, rapidity of opinion generation on a local, national and global scale can be witnessed. The socio-political implications of the new information order has strengthened the democracy by providing public space for the widespread debate.

Which paradigm shifts are witnessed in the age of information ?

- (1) Access and dissemination of information
- (2) low data
- (3) Excess speed of internet
- (4) The weakening of democracy

Options :

485584158653. 1

485584158654. 2

485584158655. 3

485584158656. 4

Question Number : 834 Question Id : 48558439664 Question Type : MCQ Option Shuffling : No Is Question Mandatory : No Calculator : None

Response Time : N.A Think Time : N.A Minimum Instruction Time : 0

Correct Marks : 5 Wrong Marks : 1

Question Key Details :

Key	Value
Comprehension	Comp2

निम्नलिखित गद्यांश को पढ़कर पूछे गए प्रश्न का उत्तर दीजिए :

आज के युग को ICE युग के रूप भी पुनः परिभाषित किया जा सकता है। ICE का विस्तृत रूप है सूचना, संप्रेषण तथा मनोरंजन। उस काल के लोग आपस में मिलकर ही एक-दूसरे से बात कर सकते थे, वर्तमान समय में कोई भी किसी दूसरे व्यक्ति से विश्व के किसी भी कोने से बात कर सकता है तथा उसे देख भी सकता है। पूर्वकाल में सूचना एक सुविधा की तरह थी जो जनसमूह को बीसवीं शताब्दी के पूर्वार्द्ध तक प्राप्त नहीं होती थी। सम्पूर्ण विश्व एक वैश्विक ग्राम के रूप में संकुचित हो चुका है। वर्तमान में, जहाँ तक सूचना प्रसार के लिए चैनलों की उपलब्धि का संबंध है, जन संचार के माध्यमों के प्रसार ने एक बड़ी सीमा तक उनके विषय में शिकायतों के कारण को दूर किया है। किंतु सूचनाओं की गुणवत्ता तथा क्षमता के लिए प्रश्न शेष रह जाता है। इसमें कोई शंका नहीं कि संचार के माध्यमों तथा उनकी सूचनाओं के सर्जन बहुत सी विधियों द्वारा साझा करने के महत्वपूर्ण राजनैतिक व मानवीय आयाम हैं।

सूचना प्रौद्योगिकी ने आमूल परिवर्तन किए हैं। इंटरनेट ने व्यक्ति को डाटा पोस्ट करने तथा सूचना ग्रहण करने के लिए सशक्त बनाया है। एक ही सूचना प्राप्त करने के लिए यह विभिन्न स्रोत प्रदान करती है। केवल सूचना के क्षेत्र में ही नहीं, आमूल परिवर्तनों को सूचना के प्रचार-प्रसार में भी देखा जा सकता है। अभूतपूर्व रूप से वैश्विक लोगों के बीच सूचना को जारी करना, स्थानीय, राष्ट्रीय तथा वैश्विक स्तर पर विचारों को उत्पन्न करने की तीव्रता का प्रत्यक्षीकरण किया जा सकता है। नये सूचना क्रम के सामाजिक-राजनैतिक तात्पर्य ने व्यापक वाद-विवाद के लिए सार्वजनिक रूप से स्थान प्रदान करके प्रजातंत्र को सशक्त बनाया है।

सूचना के युग में कौन से आमूल परिवर्तनों का प्रत्यक्षीकरण होता है ?

- (1) सूचना का प्रचार-प्रसार तथा अभिगम्यता
- (2) अल्प डाटा (दत्त)
- (3) इंटरनेट की अत्यधिक चाल
- (4) प्रजातंत्र का कमजोर पड़ना

Options :

485584158653. 1
485584158654. 2
485584158655. 3
485584158656. 4

Question Number : 835 Question Id : 48558439665 Question Type : MCQ Option Shuffling : No Is Question Mandatory : No Calculator : None
Response Time : N.A Think Time : N.A Minimum Instruction Time : 0
Correct Marks : 5 Wrong Marks : 1

Question Key Details :

Key	Value
Comprehension	Comp2

Read the following passage and answer the question that follow :

Today's age can be redefined as another ICE Age. The full form of ICE is Information, Communication and Entertainment. From the era when people could only talk to each other through first hand experience to today's era when we can talk and look at any one from almost all corners of the world. Earlier, information has been a privilege denied to the masses till the early part of twentieth century. The world has shrunk to a 'global village'. Today the spread of mass media has largely removed the cause of complaint as far as the availability of channels for spread of information are concerned. But the question remains about the quality and efficiency of the information, but there is no doubt that media and their capacity of creating and sharing information in many ways has important political and humanist dimensions.

Information Technology has changed the paradigm. Internet has empowered an individual to post data and receive information. It also opens variety of sources for one information. Not only in the field of information, the paradigm shift can also be witnessed in dissemination of information too. Distribution of the information between individual on an unprecedented global scale, rapidity of opinion generation on a local, national and global scale can be witnessed. The socio-political implications of the new information order has strengthened the democracy by providing public space for the widespread debate.

What is **not** correct in reference to information revolution ?

- (1) Easy availability of channels
- (2) Easy Access to information
- (3) Capacity of sharing information
- (4) Access denied to the privileged

Options :

485584158657. 1

485584158658. 2

485584158659. 3

485584158660. 4

Question Number : 835 Question Id : 48558439665 Question Type : MCQ Option Shuffling : No Is Question Mandatory : No Calculator : None

Response Time : N.A Think Time : N.A Minimum Instruction Time : 0

Correct Marks : 5 Wrong Marks : 1

Question Key Details :

Key	Value
Comprehension	Comp2

निम्नलिखित गद्यांश को पढ़कर पूछे गए प्रश्न का उत्तर दीजिए :

आज के युग को ICE युग के रूप भी पुनः परिभाषित किया जा सकता है। ICE का विस्तृत रूप है सूचना, संप्रेषण तथा मनोरंजन। उस काल के लोग आपस में मिलकर ही एक-दूसरे से बात कर सकते थे, वर्तमान समय में कोई भी किसी दूसरे व्यक्ति से विश्व के किसी भी कोने से बात कर सकता है तथा उसे देख भी सकता है। पूर्वकाल में सूचना एक सुविधा की तरह थी जो जनसमूह को बीसवीं शताब्दी के पूर्वार्द्ध तक प्राप्त नहीं होती थी। सम्पूर्ण विश्व एक वैश्विक ग्राम के रूप में संकुचित हो चुका है। वर्तमान में, जहाँ तक सूचान प्रसार के लिए चैनलों की उपलब्धि का संबंध है, जन संचार के माध्यमों के प्रसार ने एक बड़ी सीमा तक उनके विषय में शिकायतों के कारण को दूर किया है। किंतु सूचनाओं की गुणवत्ता तथा क्षमता के लिए प्रश्न शेष रह जाता है। इसमें कोई शंका नहीं कि संचार के माध्यमों तथा उनकी सूचनाओं के सर्जन बहुत सी विधियों द्वारा साक्षात् करने के महत्वपूर्ण राजनैतिक व मानवीय आयाम हैं।

सूचना प्रौद्योगिकी ने आमूल परिवर्तन किए हैं। इंटरनेट ने व्यक्ति को डाटा पोस्ट करने तथा सूचना ग्रहण करने के लिए सशक्त बनाया है। एक ही सूचना प्राप्त करने के लिए यह विभिन्न स्रोत प्रदान करती है। केवल सूचना के क्षेत्र में ही नहीं, आमूल परिवर्तनों को सूचना के प्रचार-प्रसार में भी देखा जा सकता है। अभूतपूर्व रूप से वैश्विक लोगों के बीच सूचना को जारी करना, स्थानीय, राष्ट्रीय तथा वैश्विक स्तर पर विचारों को उत्पन्न करने की तीव्रता का प्रत्यक्षीकरण किया जा सकता है। नये सूचना क्रम के सामाजिक-राजनैतिक तात्पर्य ने व्यापक वाद-विवाद के लिए सार्वजनिक रूप से स्थान प्रदान करके प्रजातंत्र को सशक्त बनाया है।

सूचना क्रांति के संदर्भ में क्या सही नहीं है ?

- (1) चैनलों की सुलभता
- (2) सूचना की सुगम्यता
- (3) सूचना को साक्षात् करने की क्षमता
- (4) विशेष सुविधा प्राप्त लोगों तक सुलभ न होना

Options :

485584158657. 1
485584158658. 2
485584158659. 3
485584158660. 4

Mathematics

Group Number :	18
Group Id :	485584899
Group Maximum Duration :	60
Group Minimum Duration :	60
Show Attended Group? :	No
Edit Attended Group? :	No
Break time :	0
Group Marks :	200
Is this Group for Examiner? :	No
Examiner permission :	Cant View
Show Progress Bar? :	No

Common

Section Id :	4855841041
Section Number :	1
Section type :	Online
Mandatory or Optional :	Mandatory
Number of Questions :	15

Number of Questions to be attempted : 15
 Section Marks : 75
 Enable Mark as Answered Mark for Review and Clear Response : Yes
 Maximum Instruction Time : 0
 Sub-Section Number : 1
 Sub-Section Id : 4855842949
 Question Shuffling Allowed : Yes
 Is Section Default? : null

Question Number : 836 Question Id : 48558439281 Question Type : MCQ Option Shuffling : No Is Question Mandatory : No Calculator : None
 Response Time : N.A Think Time : N.A Minimum Instruction Time : 0
 Correct Marks : 5 Wrong Marks : 1

Question Key Details :

Key	Value
Comprehension	MCQ1

If $A = \begin{bmatrix} 1 & 2 & x \\ 0 & 1 & 0 \\ 0 & 0 & 1 \end{bmatrix}$, $B = \begin{bmatrix} 1 & -2 & y \\ 0 & 1 & 0 \\ 0 & 0 & 1 \end{bmatrix}$ and $AB = I_3$, where I_3 is the unit matrix of order 3×3 , then $x + y$ is equal to:

1. 0
2. -1
3. 2
4. -2

Options :

485584157121. 1
 485584157122. 2
 485584157123. 3
 485584157124. 4

Question Number : 836 Question Id : 48558439281 Question Type : MCQ Option Shuffling : No Is Question Mandatory : No Calculator : None
 Response Time : N.A Think Time : N.A Minimum Instruction Time : 0
 Correct Marks : 5 Wrong Marks : 1

Question Key Details :

Key	Value
Comprehension	MCQ1

यदि $A = \begin{bmatrix} 1 & 2 & x \\ 0 & 1 & 0 \\ 0 & 0 & 1 \end{bmatrix}$, $B = \begin{bmatrix} 1 & -2 & y \\ 0 & 1 & 0 \\ 0 & 0 & 1 \end{bmatrix}$ तथा $AB = I_3$, जहाँ I_3 , 3×3 कोटि का इकाई आव्यूह है तो $x + y$ बराबर है:

1. 0
2. -1
3. 2
4. -2

Options :

485584157121. 1
 485584157122. 2
 485584157123. 3
 485584157124. 4

Question Number : 837 Question Id : 48558439282 Question Type : MCQ Option Shuffling : No Is Question Mandatory : No Calculator : None
 Response Time : N.A Think Time : N.A Minimum Instruction Time : 0
 Correct Marks : 5 Wrong Marks : 1

Question Key Details :

Key	Value
-----	-------

Comprehension	MCQ1
---------------	------

If $A = \begin{bmatrix} x & 1 \\ 1 & 0 \end{bmatrix}$ and $A = A^{-1}$, then the value of x is :

1. 0
2. 1
3. 2
4. 3

Options :

485584157125. 1
 485584157126. 2
 485584157127. 3
 485584157128. 4

Question Number : 837 Question Id : 48558439282 Question Type : MCQ Option Shuffling : No Is Question Mandatory : No Calculator : None
 Response Time : N.A Think Time : N.A Minimum Instruction Time : 0
 Correct Marks : 5 Wrong Marks : 1

Question Key Details :

Key	Value
Comprehension	MCQ1

यदि $A = \begin{bmatrix} x & 1 \\ 1 & 0 \end{bmatrix}$ तथा $A = A^{-1}$, तो x का मान होगा:

1. 0
2. 1
3. 2
4. 3

Options :

485584157125. 1
 485584157126. 2
 485584157127. 3
 485584157128. 4

Question Number : 838 Question Id : 48558439283 Question Type : MCQ Option Shuffling : No Is Question Mandatory : No Calculator : None
 Response Time : N.A Think Time : N.A Minimum Instruction Time : 0
 Correct Marks : 5 Wrong Marks : 1

Question Key Details :

Key	Value
Comprehension	MCQ1

If x, y, z are different and $A = \begin{bmatrix} x & x^2 & 1+x^3 \\ y & y^2 & 1+y^3 \\ z & z^2 & 1+z^3 \end{bmatrix} = 0$, then the value of xyz is:

1. 1
2. 0
3. -1
4. 2

Options :

485584157129. 1
485584157130. 2
485584157131. 3
485584157132. 4

Question Number : 838 Question Id : 48558439283 Question Type : MCQ Option Shuffling : No Is Question Mandatory : No Calculator : None
Response Time : N.A Think Time : N.A Minimum Instruction Time : 0
Correct Marks : 5 Wrong Marks : 1
Question Key Details :

Key	Value
Comprehension	MCQ1

यदि x, y, z अलग-अलग हो तथा $\Delta = \begin{vmatrix} x & x^2 & 1+x^3 \\ y & y^2 & 1+y^3 \\ z & z^2 & 1+z^3 \end{vmatrix} = 0$, तो xyz का मान है:

1. 1
2. 0
3. -1
4. 2

Options :
485584157129. 1
485584157130. 2
485584157131. 3
485584157132. 4

Question Number : 839 Question Id : 48558439284 Question Type : MCQ Option Shuffling : No Is Question Mandatory : No Calculator : None
Response Time : N.A Think Time : N.A Minimum Instruction Time : 0
Correct Marks : 5 Wrong Marks : 1
Question Key Details :

Key	Value
Comprehension	MCQ1

If the points, $(2, -3)$, $(\lambda, -1)$ and $(0, 4)$ are collinear, then the value of λ is:

1. $\frac{1}{3}$
2. 3
3. $\frac{7}{10}$
4. $\frac{10}{7}$

Options :
485584157133. 1
485584157134. 2
485584157135. 3
485584157136. 4

Question Number : 839 Question Id : 48558439284 Question Type : MCQ Option Shuffling : No Is Question Mandatory : No Calculator : None
Response Time : N.A Think Time : N.A Minimum Instruction Time : 0
Correct Marks : 5 Wrong Marks : 1
Question Key Details :

Key	Value
Comprehension	MCQ1

यदि बिन्दु $(2, -3)$, $(\lambda, -1)$ तथा $(0, 4)$ संरेख हों तो λ का मान है:

1. $\frac{1}{3}$

2. 3

3. $\frac{7}{10}$

4. $\frac{10}{7}$

Options :

485584157133. 1

485584157134. 2

485584157135. 3

485584157136. 4

Question Number : 840 Question Id : 48558439285 Question Type : MCQ Option Shuffling : No Is Question Mandatory : No Calculator : None

Response Time : N.A Think Time : N.A Minimum Instruction Time : 0

Correct Marks : 5 Wrong Marks : 1

Question Key Details :

Key	Value
Comprehension	MCQ1

If $y = 10^{10^x}$, then $\frac{dy}{dx}$ is :

1. $10^{10^x} (\log 10)$

2. $10^{10^x} (\log 10)^2$

3. $10^{10^x} 10^x (\log 10)^2$

4. $10^{10^x} 10^x (\log 10)$

Options :

485584157137. 1

485584157138. 2

485584157139. 3

485584157140. 4

Question Number : 840 Question Id : 48558439285 Question Type : MCQ Option Shuffling : No Is Question Mandatory : No Calculator : None

Response Time : N.A Think Time : N.A Minimum Instruction Time : 0

Correct Marks : 5 Wrong Marks : 1

Question Key Details :

Key	Value
Comprehension	MCQ1

यदि $y = 10^{10^x}$, तो $\frac{dy}{dx}$ है :

1. $10^{10^x} (\log 10)$
2. $10^{10^x} (\log 10)^2$
3. $10^{10^x} 10^x (\log 10)^2$
4. $10^{10^x} 10^x (\log 10)$

Options :

485584157137. 1
485584157138. 2
485584157139. 3
485584157140. 4

Question Number : 841 **Question Id :** 48558439286 **Question Type :** MCQ **Option Shuffling :** No **Is Question Mandatory :** No **Calculator :** None
Response Time : N.A **Think Time :** N.A **Minimum Instruction Time :** 0

Correct Marks : 5 **Wrong Marks :** 1

Question Key Details :

Key	Value
Comprehension	MCQ1

The tangent to the parabola, $x^2 = 2y$ at the point $\left(1, \frac{1}{2}\right)$ makes with the x -axis an angle of :

1. 0°
2. 45°
3. 30°
4. 60°

Options :

485584157141. 1
485584157142. 2
485584157143. 3
485584157144. 4

Question Number : 841 **Question Id :** 48558439286 **Question Type :** MCQ **Option Shuffling :** No **Is Question Mandatory :** No **Calculator :** None
Response Time : N.A **Think Time :** N.A **Minimum Instruction Time :** 0

Correct Marks : 5 **Wrong Marks :** 1

Question Key Details :

Key	Value
Comprehension	MCQ1

परवलय $x^2 = 2y$ के बिंदु $\left(1, \frac{1}{2}\right)$ पर खींची गयी स्पर्श रेखा x -अक्ष के साथ कितने अंश का कोण बनाती है :

1. 0°
2. 45°
3. 30°
4. 60°

Options :

485584157141. 1

485584157142. 2

485584157143. 3

485584157144. 4

Question Number : 842 Question Id : 48558439287 Question Type : MCQ Option Shuffling : No Is Question Mandatory : No Calculator : None
Response Time : N.A Think Time : N.A Minimum Instruction Time : 0

Correct Marks : 5 Wrong Marks : 1

Question Key Details :

Key	Value
Comprehension	MCQ1

The function $f(x) = x^3, x \in \mathbb{R}$ has :

1. Maximum value at $x = 0$
2. Minimum value at $x = 0$
3. Neither maximum nor minimum value at $x = 0$
4. Maximum value and minimum value at $x = 0$

Options :

485584157145. 1

485584157146. 2

485584157147. 3

485584157148. 4

Question Number : 842 Question Id : 48558439287 Question Type : MCQ Option Shuffling : No Is Question Mandatory : No Calculator : None
Response Time : N.A Think Time : N.A Minimum Instruction Time : 0

Correct Marks : 5 Wrong Marks : 1

Question Key Details :

Key	Value
Comprehension	MCQ1

फलन $f(x) = x^3, x \in \mathbb{R}$ का

1. $x = 0$ पर अधिकतम मान है
2. $x = 0$ पर न्यूनतम मान है
3. $x = 0$ पर ना तो महत्तम ना ही न्यूनतम है
4. $x = 0$ पर महत्तम व न्यूनतम मान है

Options :

485584157145. 1

485584157146. 2

485584157147. 3

485584157148. 4

Question Number : 843 Question Id : 48558439288 Question Type : MCQ Option Shuffling : No Is Question Mandatory : No Calculator : None
Response Time : N.A Think Time : N.A Minimum Instruction Time : 0

Correct Marks : 5 Wrong Marks : 1

Question Key Details :

Key	Value
Comprehension	MCQ1

If $f(x) = \begin{cases} 2x+8, & 1 \leq x \leq 2 \\ 6x, & 2 < x < 4 \end{cases}$, then $\int_1^4 f(x)$ is:

1. 43

2. 45

3. 47

4. 46

Options :

485584157149. 1

485584157150. 2

485584157151. 3

485584157152. 4

Question Number : 843 Question Id : 48558439288 Question Type : MCQ Option Shuffling : No Is Question Mandatory : No Calculator : None Response Time : N.A Think Time : N.A Minimum Instruction Time : 0 Correct Marks : 5 Wrong Marks : 1

Question Key Details :

Key	Value
Comprehension	MCQ1

यदि $f(x) = \begin{cases} 2x+8, & 1 \leq x \leq 2 \\ 6x, & 2 < x < 4 \end{cases}$, तो $\int_1^4 f(x) =$

1. 43

2. 45

3. 47

4. 46

Options :

485584157149. 1

485584157150. 2

485584157151. 3

485584157152. 4

Question Number : 844 Question Id : 48558439289 Question Type : MCQ Option Shuffling : No Is Question Mandatory : No Calculator : None Response Time : N.A Think Time : N.A Minimum Instruction Time : 0 Correct Marks : 5 Wrong Marks : 1

Question Key Details :

Key	Value
Comprehension	MCQ1

The area of the region bounded by the line $2y = 5x + 7$, x-axis and the lines $x = 1$ and $x = 3$ is :

1. 15

2. 17

3. 16

4. 19

Options :

485584157153. 1

485584157154. 2

485584157155. 3

485584157156. 4

Question Number : 844 Question Id : 48558439289 Question Type : MCQ Option Shuffling : No Is Question Mandatory : No Calculator : None

Response Time : N.A Think Time : N.A Minimum Instruction Time : 0

Correct Marks : 5 Wrong Marks : 1

Question Key Details :

Key	Value
Comprehension	MCQ1

रेखा $2y = 5x + 7$, x -अक्ष एवं रेखाओं $x=1$ एवं $x=3$ से घिरे क्षेत्र का क्षेत्रफल है :

1. 15

2. 17

3. 16

4. 19

Options :

485584157153. 1

485584157154. 2

485584157155. 3

485584157156. 4

Question Number : 845 Question Id : 48558439290 Question Type : MCQ Option Shuffling : No Is Question Mandatory : No Calculator : None

Response Time : N.A Think Time : N.A Minimum Instruction Time : 0

Correct Marks : 5 Wrong Marks : 1

Question Key Details :

Key	Value
Comprehension	MCQ1

The integrating factor of the differential equation $(1+y^2)dx - (\tan^{-1}y - x)dy = 0$, is :

1. $\tan^{-1}y$

2. $e^{\tan^{-1}y}$

3. $\frac{1}{1+y^2}$

4. $\frac{1}{x(1+y^2)}$

Options :

485584157157. 1

485584157158. 2

485584157159. 3

485584157160. 4

Question Number : 845 Question Id : 48558439290 Question Type : MCQ Option Shuffling : No Is Question Mandatory : No Calculator : None

Response Time : N.A Think Time : N.A Minimum Instruction Time : 0

Correct Marks : 5 Wrong Marks : 1

Question Key Details :

Key	Value
Comprehension	MCQ1

अतकल समीकरण $(1 + y^2)dx - (\tan^{-1}y - x)dy = 0$ का समाकलन गुणक है -

1. $\tan^{-1}y$
2. $e^{\tan^{-1}y}$
3. $\frac{1}{1+y^2}$
4. $\frac{1}{x(1+y^2)}$

Options :

485584157157. 1

485584157158. 2

485584157159. 3

485584157160. 4

Question Number : 846 Question Id : 48558439291 Question Type : MCQ Option Shuffling : No Is Question Mandatory : No Calculator : None Response Time : N.A Think Time : N.A Minimum Instruction Time : 0

Correct Marks : 5 Wrong Marks : 1

Question Key Details :

Key	Value
Comprehension	MCQ1

The order and the degree of the differential equation

$$\frac{d^2y}{dx^2} = \left(1 + \frac{dy}{dx}\right)^{\frac{1}{2}}$$

respectively are:

1. order = 2, degree = 1
2. order = 2, degree = 2
3. order = 1, degree = 2
4. order = 1, degree = 1

Options :

485584157161. 1

485584157162. 2

485584157163. 3

485584157164. 4

Question Number : 846 Question Id : 48558439291 Question Type : MCQ Option Shuffling : No Is Question Mandatory : No Calculator : None Response Time : N.A Think Time : N.A Minimum Instruction Time : 0

Correct Marks : 5 Wrong Marks : 1

Question Key Details :

Key	Value
Comprehension	MCQ1

अवकल समीकरण

$$\frac{d^2y}{dx^2} = \left(1 + \frac{dy}{dx}\right)^{\frac{1}{2}}$$

की कोटि व घात क्रमशः हैं :

1. कोटि = 2, घात = 1
2. कोटि = 2, घात = 2
3. कोटि = 1, घात = 2
4. कोटि = 1, घात = 1

Options :

485584157161. 1
485584157162. 2
485584157163. 3
485584157164. 4

Question Number : 847 Question Id : 48558439292 Question Type : MCQ Option Shuffling : No Is Question Mandatory : No Calculator : None Response Time : N.A Think Time : N.A Minimum Instruction Time : 0 Correct Marks : 5 Wrong Marks : 1 Question Key Details :

Key	Value
Comprehension	MCQ1

Which of the following is correct?

1. Every LPP admits an optimal solution.
2. Every LPP admits a unique solution.
3. The optimal value does not occur at a corner point of the feasible region only.
4. If a LPP admits optimal solution at two points, then it has optimal solution at infinite number of points.

Options :

485584157165. 1
485584157166. 2
485584157167. 3
485584157168. 4

Question Number : 847 Question Id : 48558439292 Question Type : MCQ Option Shuffling : No Is Question Mandatory : No Calculator : None Response Time : N.A Think Time : N.A Minimum Instruction Time : 0

Correct Marks : 5 Wrong Marks : 1

Question Key Details :

Key	Value
Comprehension	MCQ1

निम्न में से कौन सा सही है?

1. प्रत्येक LPP एक इष्टतम हल प्राप्त करता है।
2. प्रत्येक LPP का एक अद्वितीय हल होता है।
3. इष्टतम मान सुसंगत क्षेत्र के कोनीय बिंदु पर नहीं होता है।
4. यदि किसी LPP का इष्टतम हल दो बिन्दुओं पर हो, तो इसका अनगिनत बिंदुओं पर इष्टतम हल होगा।

Options :

485584157165. 1

485584157166. 2

485584157167. 3

485584157168. 4

Question Number : 848 Question Id : 48558439293 Question Type : MCQ Option Shuffling : No Is Question Mandatory : No Calculator : None
Response Time : N.A Think Time : N.A Minimum Instruction Time : 0

Correct Marks : 5 Wrong Marks : 1

Question Key Details :

Key	Value
Comprehension	MCQ1

The corner points of feasible region determined by the system of linear constraints are (0, 3), (1, 1) and (3, 0).
Let $Z = px + qy$ where $p, q > 0$. The conditions on p and q so that, minimum of Z occurs at (3, 0) and (1, 1) is :

1. $p = 2q$

2. $p = \frac{q}{2}$

3. $p = 3q$

4. $p = q$

Options :

485584157169. 1

485584157170. 2

485584157171. 3

485584157172. 4

Question Number : 848 Question Id : 48558439293 Question Type : MCQ Option Shuffling : No Is Question Mandatory : No Calculator : None
Response Time : N.A Think Time : N.A Minimum Instruction Time : 0

Correct Marks : 5 Wrong Marks : 1

Question Key Details :

Key	Value
Comprehension	MCQ1

किसी सुसंगत क्षेत्र के कोनीय बिंदुओं (0, 3), (1, 1) तथा (3, 0) का निर्धारण व्युत्पन्न के निकाय द्वारा होता है। माना $Z = px + qy$ जहाँ $p, q > 0$ । p एवं q में वह शर्त जिसके लिए (3, 0) तथा (1, 1) पर न्यूनतम Z हो, है -

1. $p = 2q$

2. $p = \frac{q}{2}$

3. $p = 3q$

4. $p = q$

Options :

485584157169. 1

485584157170. 2

485584157171. 3

485584157172. 4

Question Number : 849 Question Id : 48558439294 Question Type : MCQ Option Shuffling : No Is Question Mandatory : No Calculator : None
Response Time : N.A Think Time : N.A Minimum Instruction Time : 0

Correct Marks : 5 Wrong Marks : 1

Question Key Details :

Key	Value
Comprehension	MCQ1

The mean of the numbers obtained on throwing a die having written 1 on three faces, 2 on two faces and 5 on 1 face is:

- 1. 1
- 2. 2
- 3. 5
- 4. $\frac{8}{3}$

Options :

- 485584157173. 1
- 485584157174. 2
- 485584157175. 3
- 485584157176. 4

Question Number : 849 Question Id : 48558439294 Question Type : MCQ Option Shuffling : No Is Question Mandatory : No Calculator : None

Response Time : N.A Think Time : N.A Minimum Instruction Time : 0

Correct Marks : 5 Wrong Marks : 1

Question Key Details :

Key	Value
Comprehension	MCQ1

किसी पासे जिसके तीन पार्श्व पर 1, दो पार्श्व पर 2 तथा 1 पार्श्व पर 5 लिखा है, को फेंकने पर प्राप्त संख्या का माध्य होगा -

- 1. 1
- 2. 2
- 3. 5
- 4. $\frac{8}{3}$

Options :

- 485584157173. 1
- 485584157174. 2
- 485584157175. 3
- 485584157176. 4

Question Number : 850 Question Id : 48558439295 Question Type : MCQ Option Shuffling : No Is Question Mandatory : No Calculator : None

Response Time : N.A Think Time : N.A Minimum Instruction Time : 0

Correct Marks : 5 Wrong Marks : 1

Question Key Details :

Key	Value
Comprehension	MCQ1

If $P(A) = \frac{3}{10}$, $P(B) = \frac{2}{5}$ and $P(A \cup B) = \frac{3}{5}$, then $P\left(\frac{B}{A}\right) + P\left(\frac{A}{B}\right)$ is equal to:

1. $\frac{1}{4}$

2. $\frac{1}{3}$

3. $\frac{5}{12}$

4. $\frac{7}{12}$

Options :

485584157177. 1

485584157178. 2

485584157179. 3

485584157180. 4

Question Number : 850 Question Id : 48558439295 Question Type : MCQ Option Shuffling : No Is Question Mandatory : No Calculator : None Response Time : N.A Think Time : N.A Minimum Instruction Time : 0

Correct Marks : 5 Wrong Marks : 1

Question Key Details :

Key	Value
Comprehension	MCQ1

यदि $P(A) = \frac{3}{10}$, $P(B) = \frac{2}{5}$ तथा $P(A \cup B) = \frac{3}{5}$, तो $P\left(\frac{B}{A}\right) + P\left(\frac{A}{B}\right)$ बराबर है :

1. $\frac{1}{4}$

2. $\frac{1}{3}$

3. $\frac{5}{12}$

4. $\frac{7}{12}$

Options :

485584157177. 1

485584157178. 2

485584157179. 3

485584157180. 4

Core Mathematics

Section Id :	4855841042
Section Number :	2
Section type :	Online
Mandatory or Optional :	Optional
Number of Questions :	35
Number of Questions to be attempted :	25
Section Marks :	125
Enable Mark as Answered Mark for Review and Clear Response :	Yes
Maximum Instruction Time :	0
Sub-Section Number :	1

Sub-Section Id :
Question Shuffling Allowed :
Is Section Default? :

4855842950
Yes
null

Question Number : 851 Question Id : 48558439296 Question Type : MCQ Option Shuffling : No Is Question Mandatory : No Calculator : None
Response Time : N.A Think Time : N.A Minimum Instruction Time : 0
Correct Marks : 5 Wrong Marks : 1
Question Key Details :

Key	Value
Comprehension	MCQ2

The relation R in the set A = {1, 2, 3, 4} is given by $R = \{(1, 2), (2, 2), (1, 1), (4, 4), (1, 3), (3, 3), (3, 2)\}$ is:

1. Reflexive and symmetric but not transitive
2. Reflexive and transitive but not symmetric
3. Symmetric and transitive but not reflexive
4. an equivalence relation

Options :

485584157181. 1
485584157182. 2
485584157183. 3
485584157184. 4

Question Number : 851 Question Id : 48558439296 Question Type : MCQ Option Shuffling : No Is Question Mandatory : No Calculator : None
Response Time : N.A Think Time : N.A Minimum Instruction Time : 0
Correct Marks : 5 Wrong Marks : 1

Question Key Details :

Key	Value
Comprehension	MCQ2

समुच्चय $A = \{1, 2, 3, 4\}$ पर संबंध $R = \{(1, 2), (2, 2), (1, 1), (4, 4), (1, 3), (3, 3), (3, 2)\}$ द्वारा प्रदत्त है, तो संबंध R है:

1. स्वतुल्य एवं सममित परन्तु संक्रामक नहीं
2. स्वतुल्य एवं संक्रामक परन्तु सममित नहीं
3. सममित एवं संक्रामक परन्तु स्वतुल्य नहीं
4. तुल्यता संबंध

Options :

485584157181. 1
485584157182. 2
485584157183. 3
485584157184. 4

Question Number : 852 Question Id : 48558439297 Question Type : MCQ Option Shuffling : No Is Question Mandatory : No Calculator : None
Response Time : N.A Think Time : N.A Minimum Instruction Time : 0
Correct Marks : 5 Wrong Marks : 1

Question Key Details :

Key	Value
Comprehension	MCQ2

If $f(x) = 27x^3$ and $g(x) = (x)^{\frac{1}{3}}$, then $g \circ f(x)$ is:

1. x
2. $2x$
3. $3x$
4. 0

Options :

485584157185. 1
485584157186. 2
485584157187. 3
485584157188. 4

Question Number : 852 Question Id : 48558439297 Question Type : MCQ Option Shuffling : No Is Question Mandatory : No Calculator : None Response Time : N.A Think Time : N.A Minimum Instruction Time : 0

Correct Marks : 5 Wrong Marks : 1

Question Key Details :

Key	Value
Comprehension	MCQ2

यदि $f(x) = 27x^3$ तथा $g(x) = (x)^{\frac{1}{3}}$, तो $g \circ f(x)$ है:

1. x
2. $2x$
3. $3x$
4. 0

Options :

485584157185. 1
485584157186. 2
485584157187. 3
485584157188. 4

Question Number : 853 Question Id : 48558439298 Question Type : MCQ Option Shuffling : No Is Question Mandatory : No Calculator : None Response Time : N.A Think Time : N.A Minimum Instruction Time : 0

Correct Marks : 5 Wrong Marks : 1

Question Key Details :

Key	Value
Comprehension	MCQ2

Principal value of $\tan^{-1}(-\sqrt{3}) + \tan^{-1}(1)$ is:

1. $\frac{\pi}{12}$

2. $\frac{\pi}{4}$

3. $-\frac{\pi}{12}$

4. $\frac{\pi}{2}$

Options :

485584157189. 1

485584157190. 2

485584157191. 3

485584157192. 4

Question Number : 853 Question Id : 48558439298 Question Type : MCQ Option Shuffling : No Is Question Mandatory : No Calculator : None

Response Time : N.A Think Time : N.A Minimum Instruction Time : 0

Correct Marks : 5 Wrong Marks : 1

Question Key Details :

Key	Value
Comprehension	MCQ2

$\tan^{-1}(-\sqrt{3}) + \tan^{-1}(1)$ का मुख्य मान है:

1. $\frac{\pi}{12}$

2. $\frac{\pi}{4}$

3. $-\frac{\pi}{12}$

4. $\frac{\pi}{2}$

Options :

485584157189. 1

485584157190. 2

485584157191. 3

485584157192. 4

Question Number : 854 Question Id : 48558439299 Question Type : MCQ Option Shuffling : No Is Question Mandatory : No Calculator : None

Response Time : N.A Think Time : N.A Minimum Instruction Time : 0

Correct Marks : 5 Wrong Marks : 1

Question Key Details :

Key	Value
Comprehension	MCQ2

The principal value of $\sin^{-1}\left(-\frac{1}{2}\right)$ is :

1. $-\frac{\pi}{6}$
2. $\frac{\pi}{6}$
3. $\frac{\pi}{3}$
4. $-\frac{\pi}{3}$

Options :

485584157193. 1
485584157194. 2
485584157195. 3
485584157196. 4

Question Number : 854 Question Id : 48558439299 Question Type : MCQ Option Shuffling : No Is Question Mandatory : No Calculator : None

Response Time : N.A Think Time : N.A Minimum Instruction Time : 0

Correct Marks : 5 Wrong Marks : 1

Question Key Details :

Key	Value
Comprehension	MCQ2

$\sin^{-1}\left(-\frac{1}{2}\right)$ का मुख्य मान है:

1. $-\frac{\pi}{6}$
2. $\frac{\pi}{6}$
3. $\frac{\pi}{3}$
4. $-\frac{\pi}{3}$

Options :

485584157193. 1
485584157194. 2
485584157195. 3
485584157196. 4

Question Number : 855 Question Id : 48558439300 Question Type : MCQ Option Shuffling : No Is Question Mandatory : No Calculator : None

Response Time : N.A Think Time : N.A Minimum Instruction Time : 0

Correct Marks : 5 Wrong Marks : 1

Question Key Details :

Key	Value
Comprehension	MCQ2

If A is an invertible matrix, such that $A^2 - A + I = 0$, then the inverse of A is:

1. A^{-2}
2. $I - A$, where I is an identity matrix of order 2
3. 0
4. A

Options :

485584157197. 1
485584157198. 2
485584157199. 3
485584157200. 4

Question Number : 855 Question Id : 48558439300 Question Type : MCQ Option Shuffling : No Is Question Mandatory : No Calculator : None
Response Time : N.A Think Time : N.A Minimum Instruction Time : 0
Correct Marks : 5 Wrong Marks : 1

Question Key Details :

Key	Value
Comprehension	MCQ2

यदि A एक व्युत्क्रमणीय आव्यूह इस प्रकार है कि $A^2 - A + I = 0$, तो A का व्युत्क्रम है:

1. A^{-2}
2. $I - A$, जहाँ I कोटि 2 का तत्समक आव्यूह है
3. 0
4. A

Options :

485584157197. 1
485584157198. 2
485584157199. 3
485584157200. 4

Question Number : 856 Question Id : 48558439301 Question Type : MCQ Option Shuffling : No Is Question Mandatory : No Calculator : None
Response Time : N.A Think Time : N.A Minimum Instruction Time : 0
Correct Marks : 5 Wrong Marks : 1

Question Key Details :

Key	Value
Comprehension	MCQ2

The determinant $\begin{vmatrix} x & \sin \theta & \cos \theta \\ -\sin \theta & -x & 1 \\ \cos \theta & 1 & x \end{vmatrix}$ is:

1. independent of θ only
2. independent of x only
3. independent of both θ and x
4. independent of x but not of θ

Options :

485584157201. 1
485584157202. 2
485584157203. 3

485584157204. 4

Question Number : 856 Question Id : 48558439301 Question Type : MCQ Option Shuffling : No Is Question Mandatory : No Calculator : None
Response Time : N.A Think Time : N.A Minimum Instruction Time : 0
Correct Marks : 5 Wrong Marks : 1

Question Key Details :

Key	Value
Comprehension	MCQ2

सारणिक $\begin{vmatrix} x & \sin \theta & \cos \theta \\ -\sin \theta & -x & 1 \\ \cos \theta & 1 & x \end{vmatrix}$ होगा:

- केवल θ से स्वतंत्र
- केवल x से स्वतंत्र
- θ एवं x दोनों से स्वतंत्र
- x से स्वतंत्र किन्तु θ से नहीं

Options :

485584157201. 1
485584157202. 2
485584157203. 3
485584157204. 4

Question Number : 857 Question Id : 48558439302 Question Type : MCQ Option Shuffling : No Is Question Mandatory : No Calculator : None
Response Time : N.A Think Time : N.A Minimum Instruction Time : 0

Correct Marks : 5 Wrong Marks : 1

Question Key Details :

Key	Value
Comprehension	MCQ2

The value of k for which the matrix $\begin{pmatrix} 0 & 2 & k \\ 2 & 0 & 3 \\ -3 & 3 & 0 \end{pmatrix}$ is a symmetric matrix is given by:

- 3
- 3
- 0
- 1

Options :

485584157205. 1
485584157206. 2
485584157207. 3
485584157208. 4

Question Number : 857 Question Id : 48558439302 Question Type : MCQ Option Shuffling : No Is Question Mandatory : No Calculator : None
Response Time : N.A Think Time : N.A Minimum Instruction Time : 0

Correct Marks : 5 Wrong Marks : 1

Question Key Details :

Key	Value
Comprehension	MCQ2

k के किस मान के लिए आव्यूह $\begin{pmatrix} 0 & 2 & k \\ 2 & 0 & 5 \\ -3 & 5 & 0 \end{pmatrix}$ एक सममित आव्यूह होगा:

1. 3
2. -3
3. 0
4. 1

Options :

485584157205. 1
485584157206. 2
485584157207. 3
485584157208. 4

Question Number : 858 Question Id : 48558439303 Question Type : MCQ Option Shuffling : No Is Question Mandatory : No Calculator : None Response Time : N.A Think Time : N.A Minimum Instruction Time : 0 Correct Marks : 5 Wrong Marks : 1

Question Key Details :

Key	Value
Comprehension	MCQ2

The value of λ for which the matrix $\begin{pmatrix} 1 & 0 & \lambda \\ 0 & 1 & 0 \\ 1 & 0 & 1 \end{pmatrix}$ is a singular matrix is:

1. 0
2. -1
3. 1
4. 2

Options :

485584157209. 1
485584157210. 2
485584157211. 3
485584157212. 4

Question Number : 858 Question Id : 48558439303 Question Type : MCQ Option Shuffling : No Is Question Mandatory : No Calculator : None Response Time : N.A Think Time : N.A Minimum Instruction Time : 0 Correct Marks : 5 Wrong Marks : 1

Question Key Details :

Key	Value
Comprehension	MCQ2

λ के किस मान के लिए आव्यूह $\begin{pmatrix} 1 & 0 & \lambda \\ 0 & 1 & 0 \\ 1 & 0 & 1 \end{pmatrix}$ अच्युत्क्रमणीय आव्यूह है:

1. 0
2. -1
3. 1
4. 2

Options :

485584157209. 1

485584157210. 2
485584157211. 3
485584157212. 4

Question Number : 859 Question Id : 48558439304 Question Type : MCQ Option Shuffling : No Is Question Mandatory : No Calculator : None
Response Time : N.A Think Time : N.A Minimum Instruction Time : 0
Correct Marks : 5 Wrong Marks : 1

Question Key Details :

Key	Value
Comprehension	MCQ2

If the order of a matrix A is 2×3 , the order of matrix B is 3×4 and the order of matrix C is 3×4 , then the order of the matrix $(A.B).C^T$ is

1. 2×3
2. 3×3
3. 3×4
4. 4×3

Options :

485584157213. 1
485584157214. 2
485584157215. 3
485584157216. 4

Question Number : 859 Question Id : 48558439304 Question Type : MCQ Option Shuffling : No Is Question Mandatory : No Calculator : None
Response Time : N.A Think Time : N.A Minimum Instruction Time : 0
Correct Marks : 5 Wrong Marks : 1

Question Key Details :

Key	Value
Comprehension	MCQ2

यदि आव्यूह A की कोटि 2×3 है, आव्यूह B की कोटि 3×4 तथा आव्यूह C की कोटि 3×4 है, तो $(A.B).C^T$ कि कोटि होगी.

1. 2×3
2. 3×3
3. 3×4
4. 4×3

Options :

485584157213. 1
485584157214. 2
485584157215. 3
485584157216. 4

Question Number : 860 Question Id : 48558439305 Question Type : MCQ Option Shuffling : No Is Question Mandatory : No Calculator : None
Response Time : N.A Think Time : N.A Minimum Instruction Time : 0
Correct Marks : 5 Wrong Marks : 1

Question Key Details :

Key	Value
Comprehension	MCQ2

The value of the determinant $\begin{vmatrix} x+y & y+z & z+x \\ z & x & y \\ 1 & 1 & 1 \end{vmatrix}$ is:

1. 1
2. 2
3. 0
4. -1

Options :

485584157217. 1
 485584157218. 2
 485584157219. 3
 485584157220. 4

Question Number : 860 Question Id : 48558439305 Question Type : MCQ Option Shuffling : No Is Question Mandatory : No Calculator : None Response Time : N.A Think Time : N.A Minimum Instruction Time : 0 Correct Marks : 5 Wrong Marks : 1

Question Key Details :

Key	Value
Comprehension	MCQ2

सारणिक $\begin{vmatrix} x+y & y+z & z+x \\ z & x & y \\ 1 & 1 & 1 \end{vmatrix}$ का मान है:

1. 1
2. 2
3. 0
4. -1

Options :

485584157217. 1
 485584157218. 2
 485584157219. 3
 485584157220. 4

Question Number : 861 Question Id : 48558439306 Question Type : MCQ Option Shuffling : No Is Question Mandatory : No Calculator : None Response Time : N.A Think Time : N.A Minimum Instruction Time : 0

Correct Marks : 5 Wrong Marks : 1

Question Key Details :

Key	Value
Comprehension	MCQ2

Match List I with List II

LIST I (Functions)		LIST II (Derivatives)	
A.	$f(x) = \sin^{-1}x$	I.	$\frac{1}{1+x^2}, x \in R$
B.	$f(x) = \tan^{-1}x$	II.	$\frac{1}{\sqrt{1-x^2}}, x \in (-1,1)$
C.	$f(x) = \cos^{-1}x$	III.	$-\frac{1}{\sqrt{1-x^2}}, x \in (-1,1)$
D.	$f(x) = \cot^{-1}x$	IV.	$-\frac{1}{1+x^2}, x \in R$

Choose the correct answer from the options given below:

1. A-III, B-I, C-II, D-IV
2. A-I, B-IV, C-III, D-II
3. A-II, B-I, C-III, D-IV
4. A-I, B-II, C-III, D-IV

Options :

485584157221. 1
 485584157222. 2
 485584157223. 3
 485584157224. 4

Question Number : 861 Question Id : 48558439306 Question Type : MCQ Option Shuffling : No Is Question Mandatory : No Calculator : None
 Response Time : N.A Think Time : N.A Minimum Instruction Time : 0
 Correct Marks : 5 Wrong Marks : 1

Question Key Details :

Key	Value
Comprehension	MCQ2

सूची I का सूची II से मिलान कीजिए

सूची I (फलन)		सूची II (अवकलज)	
A.	$f(x) = \sin^{-1}x$	I.	$\frac{1}{1+x^2}, x \in R$
B.	$f(x) = \tan^{-1}x$	II.	$\frac{1}{\sqrt{1-x^2}}, x \in (-1,1)$
C.	$f(x) = \cos^{-1}x$	III.	$-\frac{1}{\sqrt{1-x^2}}, x \in (-1,1)$
D.	$f(x) = \cot^{-1}x$	IV.	$-\frac{1}{1+x^2}, x \in R$

निम्नलिखित विकल्पों में से सही उत्तर का चयन कीजिए :

1. A-III, B-I, C-II, D-IV
2. A-I, B-IV, C-III, D-II
3. A-II, B-I, C-III, D-IV
4. A-I, B-II, C-III, D-IV

Options :

485584157221. 1
 485584157222. 2
 485584157223. 3
 485584157224. 4

Question Number : 862 Question Id : 48558439307 Question Type : MCQ Option Shuffling : No Is Question Mandatory : No Calculator : None
Response Time : N.A Think Time : N.A Minimum Instruction Time : 0

Correct Marks : 5 Wrong Marks : 1

Question Key Details :

Key	Value
Comprehension	MCQ2

If $y = A \sin x + B \cos x$, Where A and B are constants, then $\frac{d^2 y}{dx^2}$ is equal to:

1. y
2. $-y$
3. x
4. $-x$

Options :

485584157225. 1

485584157226. 2

485584157227. 3

485584157228. 4

Question Number : 862 Question Id : 48558439307 Question Type : MCQ Option Shuffling : No Is Question Mandatory : No Calculator : None
Response Time : N.A Think Time : N.A Minimum Instruction Time : 0

Correct Marks : 5 Wrong Marks : 1

Question Key Details :

Key	Value
Comprehension	MCQ2

यदि $y = A \sin x + B \cos x$, जहाँ A तथा B अचर हैं, तो $\frac{d^2 y}{dx^2}$ बराबर है:

1. y
2. $-y$
3. x
4. $-x$

Options :

485584157225. 1

485584157226. 2

485584157227. 3

485584157228. 4

Question Number : 863 Question Id : 48558439308 Question Type : MCQ Option Shuffling : No Is Question Mandatory : No Calculator : None
Response Time : N.A Think Time : N.A Minimum Instruction Time : 0

Correct Marks : 5 Wrong Marks : 1

Question Key Details :

Key	Value
Comprehension	MCQ2

If $f(x) = \begin{cases} \frac{1 - \cos 4x}{x^2}, & x \neq 0 \\ k, & x = 0 \end{cases}$ is continuous at $x = 0$, then the value of k is:

1. 8
2. 7
3. 6
4. 4

Options :

485584157229. 1
 485584157230. 2
 485584157231. 3
 485584157232. 4

Question Number : 863 Question Id : 48558439308 Question Type : MCQ Option Shuffling : No Is Question Mandatory : No Calculator : None Response Time : N.A Think Time : N.A Minimum Instruction Time : 0

Correct Marks : 5 Wrong Marks : 1

Question Key Details :

Key	Value
Comprehension	MCQ2

यदि $f(x) = \begin{cases} \frac{1 - \cos 4x}{x^2}, & x \neq 0 \\ k, & x = 0 \end{cases}$ $x = 0$ पर संतत है, तो k का मान होगा:

1. 8
2. 7
3. 6
4. 4

Options :

485584157229. 1
 485584157230. 2
 485584157231. 3
 485584157232. 4

Question Number : 864 Question Id : 48558439309 Question Type : MCQ Option Shuffling : No Is Question Mandatory : No Calculator : None Response Time : N.A Think Time : N.A Minimum Instruction Time : 0

Correct Marks : 5 Wrong Marks : 1

Question Key Details :

Key	Value
Comprehension	MCQ2

The slope of the normal to the curve $y = 2x^2 + 3\sin x$ at $x = 0$, is:

1. 3
2. -3
3. $\frac{1}{3}$
4. $-\frac{1}{3}$

Options :

485584157233. 1
 485584157234. 2
 485584157235. 3
 485584157236. 4

Question Number : 864 Question Id : 48558439309 Question Type : MCQ Option Shuffling : No Is Question Mandatory : No Calculator : None
Response Time : N.A Think Time : N.A Minimum Instruction Time : 0

Correct Marks : 5 Wrong Marks : 1

Question Key Details :

Key	Value
Comprehension	MCQ2

वक्र $y = 2x^2 + 3\sin x$ की $x = 0$ पर अभिलंब की प्रवणता है:

1. 3
 2. -3
 3. $\frac{1}{3}$
 4. $-\frac{1}{3}$

Options :

485584157233. 1
 485584157234. 2
 485584157235. 3
 485584157236. 4

Question Number : 865 Question Id : 48558439310 Question Type : MCQ Option Shuffling : No Is Question Mandatory : No Calculator : None
Response Time : N.A Think Time : N.A Minimum Instruction Time : 0

Correct Marks : 5 Wrong Marks : 1

Question Key Details :

Key	Value
Comprehension	MCQ2

If the function $f(x) = \frac{k \sin x + 2 \cos x}{\sin x + \cos x}$ is increasing for all values of x , then

1. $k < 1$
 2. $1 < k$
 3. $k > 2$
 4. $k < 2$

Options :

485584157237. 1
 485584157238. 2
 485584157239. 3
 485584157240. 4

Question Number : 865 Question Id : 48558439310 Question Type : MCQ Option Shuffling : No Is Question Mandatory : No Calculator : None
Response Time : N.A Think Time : N.A Minimum Instruction Time : 0

Correct Marks : 5 Wrong Marks : 1

Question Key Details :

Key	Value
Comprehension	MCQ2

यदि फलन $f(x) = \frac{k \sin x + 2 \cos x}{\sin x + \cos x}$, x के सभी मान के लिए वर्धमान है, तो-

1. $k < 1$
2. $1 < k$
3. $k > 2$
4. $k < 2$

Options :

485584157237. 1
485584157238. 2
485584157239. 3
485584157240. 4

Question Number : 866 Question Id : 48558439311 Question Type : MCQ Option Shuffling : No Is Question Mandatory : No Calculator : None Response Time : N.A Think Time : N.A Minimum Instruction Time : 0 Correct Marks : 5 Wrong Marks : 1

Question Key Details :

Key	Value
Comprehension	MCQ2

For fencing of flower bed with 100 cm long wire in the form of circular sector, the maximum area of the flower bed is :

1. 1000 cm^2
2. 225 cm^2
3. 625 cm^2
4. 500 cm^2

Options :

485584157241. 1
485584157242. 2
485584157243. 3
485584157244. 4

Question Number : 866 Question Id : 48558439311 Question Type : MCQ Option Shuffling : No Is Question Mandatory : No Calculator : None Response Time : N.A Think Time : N.A Minimum Instruction Time : 0 Correct Marks : 5 Wrong Marks : 1

Question Key Details :

Key	Value
Comprehension	MCQ2

एक फूल के बगीचे की वृत्तखंड के रूप में घेरने के लिए 100 सेमी लंबी तार की आवश्यकता है तो फूल के बगीचे का अधिकतम क्षेत्र है:

1. 1000 सेमी^2
2. 225 सेमी^2
3. 625 सेमी^2
4. 500 सेमी^2

Options :

485584157241. 1

485584157242. 2

485584157243. 3

485584157244. 4

Question Number : 867 Question Id : 48558439312 Question Type : MCQ Option Shuffling : No Is Question Mandatory : No Calculator : None Response Time : N.A Think Time : N.A Minimum Instruction Time : 0 Correct Marks : 5 Wrong Marks : 1

Question Key Details :

Key	Value
Comprehension	MCQ2

Match List I with List II

LIST I		LIST II	
A.	$\int_0^{\frac{\pi}{2}} \frac{\sin^2 x}{\sin^2 x + \cos^2 x} dx$	I.	$\frac{\pi}{4} - \frac{1}{2}$
B.	$\int_0^{\frac{\pi}{2}} \frac{x \sin x}{1 + \cos^2 x} dx$	II.	0
C.	$\int_{\frac{\pi}{2}}^{\pi} x \cos x dx$	III.	$\frac{\pi}{4}$
D.	$\int_{-\frac{\pi}{4}}^{\frac{\pi}{4}} \sin^2 x dx$	IV.	$\frac{\pi^2}{4}$

Choose the correct answer from the options given below:

1. A-III, B-IV, C-II, D-I
2. A-I, B-IV, C-II, D-III
3. A-I, B-II, C-III, D-IV
4. A-IV, B-III, C-II, D-I

Options :

485584157245. 1

485584157246. 2

485584157247. 3

485584157248. 4

Question Number : 867 Question Id : 48558439312 Question Type : MCQ Option Shuffling : No Is Question Mandatory : No Calculator : None Response Time : N.A Think Time : N.A Minimum Instruction Time : 0 Correct Marks : 5 Wrong Marks : 1

Question Key Details :

Key	Value
Comprehension	MCQ2

सूची I का सूची II से मिलान कीजिए

सूची I		सूची II	
A.	$\int_0^{\frac{\pi}{2}} \frac{\sin^2 x}{\sin^2 x + \cos^2 x} dx$	I.	$\frac{\pi}{4} - \frac{1}{2}$
B.	$\int_0^{\frac{\pi}{2}} \frac{x \sin x}{1 + \cos^2 x} dx$	II.	0
C.	$\int_{-\frac{\pi}{2}}^{\frac{\pi}{2}} x \cos x dx$	III.	$\frac{\pi}{4}$
D.	$\int_{-\frac{\pi}{4}}^{\frac{\pi}{4}} \sin^2 x dx$	IV.	$\frac{\pi^2}{4}$

निम्नलिखित विकल्पों में से सही उत्तर का चयन कीजिए :

1. A-III, B-IV, C-II, D-I
2. A-I, B-IV, C-II, D-III
3. A-I, B-II, C-III, D-IV
4. A-IV, B-III, C-II, D-I

Options :

485584157245. 1
 485584157246. 2
 485584157247. 3
 485584157248. 4

Question Number : 868 Question Id : 48558439313 Question Type : MCQ Option Shuffling : No Is Question Mandatory : No Calculator : None

Response Time : N.A Think Time : N.A Minimum Instruction Time : 0

Correct Marks : 5 Wrong Marks : 1

Question Key Details :

Key	Value
Comprehension	MCQ2

The area of the region bounded by $|x| + |y| = 1$, $x \geq 0$, $y \geq 0$ is:

1. $\frac{1}{4}$
2. $\frac{1}{2}$
3. $\frac{3}{2}$
4. $\frac{3}{4}$

Options :

485584157249. 1
 485584157250. 2
 485584157251. 3
 485584157252. 4

Question Number : 868 Question Id : 48558439313 Question Type : MCQ Option Shuffling : No Is Question Mandatory : No Calculator : None
Response Time : N.A Think Time : N.A Minimum Instruction Time : 0
Correct Marks : 5 Wrong Marks : 1
Question Key Details :

Key	Value
Comprehension	MCQ2

$|x| + |y| = 1, x \geq 0, y \geq 0$ से घिरे क्षेत्र का क्षेत्रफल है।

1. $\frac{1}{4}$

2. $\frac{1}{2}$

3. $\frac{3}{2}$

4. $\frac{3}{4}$

Options :

485584157249. 1

485584157250. 2

485584157251. 3

485584157252. 4

Question Number : 869 Question Id : 48558439314 Question Type : MCQ Option Shuffling : No Is Question Mandatory : No Calculator : None
Response Time : N.A Think Time : N.A Minimum Instruction Time : 0
Correct Marks : 5 Wrong Marks : 1
Question Key Details :

Key	Value
Comprehension	MCQ2

The area of the region bounded by the curve $y = \sqrt{3x+10}$, x-axis and between the lines $x = -3$ and $x = 2$ is equal to :

1. $\frac{110}{9}$

2. $\frac{252}{9}$

3. $\frac{114}{9}$

4. $\frac{126}{9}$

Options :

485584157253. 1

485584157254. 2

485584157255. 3

485584157256. 4

Question Number : 869 Question Id : 48558439314 Question Type : MCQ Option Shuffling : No Is Question Mandatory : No Calculator : None
Response Time : N.A Think Time : N.A Minimum Instruction Time : 0
Correct Marks : 5 Wrong Marks : 1
Question Key Details :

Key	Value
Comprehension	MCQ2

वक्र $y = \sqrt{3x+10}$, x -अक्ष तथा रेखा $x = -3$ तथा $x = 2$ से घिरे क्षेत्र का क्षेत्रफल है -

1. $\frac{110}{9}$
2. $\frac{252}{9}$
3. $\frac{114}{9}$
4. $\frac{126}{9}$

Options :

485584157253. 1
485584157254. 2
485584157255. 3
485584157256. 4

Question Number : 870 Question Id : 48558439315 Question Type : MCQ Option Shuffling : No Is Question Mandatory : No Calculator : None Response Time : N.A Think Time : N.A Minimum Instruction Time : 0

Correct Marks : 5 Wrong Marks : 1

Question Key Details :

Key	Value
Comprehension	MCQ2

The value of the integral $\int \frac{1 - \sin x}{\cos^2 x} dx$ is:

1. $\sec x - \tan x + C$, Where C is an arbitrary constant.
2. $\tan x - \sec x + C$, Where C is an arbitrary constant.
3. $\sec x \tan x + C$, Where C is an arbitrary constant.
4. $\tan x + \sec x + C$, Where C is an arbitrary constant.

Options :

485584157257. 1
485584157258. 2
485584157259. 3
485584157260. 4

Question Number : 870 Question Id : 48558439315 Question Type : MCQ Option Shuffling : No Is Question Mandatory : No Calculator : None Response Time : N.A Think Time : N.A Minimum Instruction Time : 0

Correct Marks : 5 Wrong Marks : 1

Question Key Details :

Key	Value
Comprehension	MCQ2

समाकलन $\int \frac{1 - \sin x}{\cos^2 x} dx$ का मान है:

1. $\sec x - \tan x + C$, जहाँ C एक स्वेच्छ अचर है।
2. $\tan x - \sec x + C$, जहाँ C एक स्वेच्छ अचर है।
3. $\sec x \tan x + C$, जहाँ C एक स्वेच्छ अचर है।
4. $\tan x + \sec x + C$, जहाँ C एक स्वेच्छ अचर है।

Options :

485584157257. 1
 485584157258. 2
 485584157259. 3
 485584157260. 4

Question Number : 871 Question Id : 48558439316 Question Type : MCQ Option Shuffling : No Is Question Mandatory : No Calculator : None
 Response Time : N.A Think Time : N.A Minimum Instruction Time : 0
 Correct Marks : 5 Wrong Marks : 1

Question Key Details :

Key	Value
Comprehension	MCQ2

Match List I with List II

	LIST I		LIST II
A.	$\frac{d^2 y}{dx^2} + \left(\frac{dy}{dx}\right)^2 + x^{\frac{1}{2}} = 0$	I.	order 2, degree 1
B.	$\frac{dy}{dx} = \frac{1}{x^{\frac{3}{2}} y^2 (1+x)^{\frac{1}{2}}}$	II.	order 2, degree not defined
C.	$\frac{d^2 y}{dx^2} = \cos 3x + \sin 3x$	III.	order 2, degree 4
D.	$\frac{d^2 y}{dx^2} + 2\frac{dy}{dx} + y = \log\left(\frac{dy}{dx}\right)$	IV.	order 1, degree 2

Choose the correct answer from the options given below:

1. A-I, B-II, C-III, D-IV
2. A-III, B-IV, C-I, D-II
3. A-III, B-II, C-IV, D-I
4. A-III, B-I, C-II, D-IV

Options :

485584157261. 1
 485584157262. 2
 485584157263. 3
 485584157264. 4

Question Number : 871 Question Id : 48558439316 Question Type : MCQ Option Shuffling : No Is Question Mandatory : No Calculator : None
 Response Time : N.A Think Time : N.A Minimum Instruction Time : 0
 Correct Marks : 5 Wrong Marks : 1

Question Key Details :

Key	Value
Comprehension	MCQ2

सूची I का सूची II से मिलान कीजिए

सूची I		सूची II	
A.	$\frac{d^2y}{dx^2} + \left(\frac{dy}{dx}\right)^2 + x^{\frac{1}{2}} = 0$	I.	कोटि 2, घात 1
B.	$\frac{dy}{dx} = \frac{x^{\frac{1}{2}}}{y^2(1+x)^{\frac{1}{2}}}$	II.	कोटि 2, घात परिभाषित नहीं
C.	$\frac{d^2y}{dx^2} = \cos 3x + \sin 3x$	III.	कोटि 2, घात 4
D.	$\frac{d^2y}{dx^2} + 2\frac{dy}{dx} + y = \log\left(\frac{dy}{dx}\right)$	IV.	कोटि 1, घात 2

निम्नलिखित विकल्पों में से सही उत्तर का चयन कीजिए :

1. A-I, B-II, C-III, D-IV
2. A-III, B-IV, C-I, D-II
3. A-III, B-II, C-IV, D-I
4. A-III, B-I, C-II, D-IV

Options :

485584157261. 1
485584157262. 2
485584157263. 3
485584157264. 4

Question Number : 872 Question Id : 48558439317 Question Type : MCQ Option Shuffling : No Is Question Mandatory : No Calculator : None Response Time : N.A Think Time : N.A Minimum Instruction Time : 0

Correct Marks : 5 Wrong Marks : 1

Question Key Details :

Key	Value
Comprehension	MCQ2

The general solution of the differential equation $xy^2 - y^2dx = 0$ represents :

1. a rectangular hyperbola
2. parabola whose vertex is at origin.
3. straight line passing through origin.
4. a circle whose center is at origin.

Options :

485584157265. 1
485584157266. 2
485584157267. 3
485584157268. 4

Question Number : 872 Question Id : 48558439317 Question Type : MCQ Option Shuffling : No Is Question Mandatory : No Calculator : None Response Time : N.A Think Time : N.A Minimum Instruction Time : 0

Correct Marks : 5 Wrong Marks : 1

Question Key Details :

Key	Value
Comprehension	MCQ2

अवकल समीकरण $xy - yx = 0$ का व्यापक हल निरूपित करता है :

1. एक आयताकार अतिपरवलय
2. परवलय जिसका शीर्ष मूल बिंदु पर है।
3. सरल रेखा जो मूल बिंदु से गुजरती है।
4. एक वृत्त जिसका केंद्र मूल बिंदु पर है।

Options :

485584157265. 1
485584157266. 2
485584157267. 3
485584157268. 4

Question Number : 873 Question Id : 48558439318 Question Type : MCQ Option Shuffling : No Is Question Mandatory : No Calculator : None Response Time : N.A Think Time : N.A Minimum Instruction Time : 0

Correct Marks : 5 Wrong Marks : 1

Question Key Details :

Key	Value
Comprehension	MCQ2

The vectors $3\hat{i} - \hat{j} + 2\hat{k}$, $2\hat{i} + \hat{j} + 3\hat{k}$ and $\hat{i} + \lambda\hat{j} - \hat{k}$ are coplanar if λ is:

1. -2
2. 0
3. 2
4. any real number

Options :

485584157269. 1
485584157270. 2
485584157271. 3
485584157272. 4

Question Number : 873 Question Id : 48558439318 Question Type : MCQ Option Shuffling : No Is Question Mandatory : No Calculator : None Response Time : N.A Think Time : N.A Minimum Instruction Time : 0

Correct Marks : 5 Wrong Marks : 1

Question Key Details :

Key	Value
Comprehension	MCQ2

सदिश $3\hat{i} - \hat{j} + 2\hat{k}$, $2\hat{i} + \hat{j} + 3\hat{k}$ तथा $\hat{i} + \lambda\hat{j} - \hat{k}$ एकतलीय है तो λ का मान है :

1. -2
2. 0
3. 2
4. कोई वास्तविक संख्या

Options :

485584157269. 1
485584157270. 2
485584157271. 3
485584157272. 4

Question Number : 874 Question Id : 48558439319 Question Type : MCQ Option Shuffling : No Is Question Mandatory : No Calculator : None
Response Time : N.A Think Time : N.A Minimum Instruction Time : 0

Correct Marks : 5 Wrong Marks : 1

Question Key Details :

Key	Value
Comprehension	MCQ2

ABCD is a rhombus, whose diagonals intersect at E. Then $\vec{EA} + \vec{EB} + \vec{EC} + \vec{ED}$ equals to :

1. $\vec{0}$
2. \vec{AD}
3. $2\vec{BC}$
4. $2\vec{AD}$

Options :

485584157273. 1

485584157274. 2

485584157275. 3

485584157276. 4

Question Number : 874 Question Id : 48558439319 Question Type : MCQ Option Shuffling : No Is Question Mandatory : No Calculator : None

Response Time : N.A Think Time : N.A Minimum Instruction Time : 0

Correct Marks : 5 Wrong Marks : 1

Question Key Details :

Key	Value
Comprehension	MCQ2

ABCD एक समचतुर्भुज है जिसके विकर्ण एक दुसरे को E पर काटते हैं, तो $\vec{EA} + \vec{EB} + \vec{EC} + \vec{ED}$ बराबर है :

1. $\vec{0}$
2. \vec{AD}
3. $2\vec{BC}$
4. $2\vec{AD}$

Options :

485584157273. 1

485584157274. 2

485584157275. 3

485584157276. 4

Question Number : 875 Question Id : 48558439320 Question Type : MCQ Option Shuffling : No Is Question Mandatory : No Calculator : None

Response Time : N.A Think Time : N.A Minimum Instruction Time : 0

Correct Marks : 5 Wrong Marks : 1

Question Key Details :

Key	Value
Comprehension	MCQ2

The angle at which the normal to the plane $4x + 8y + z = 7$ is inclined to y-axis is :

1. $\cos^{-1}\left(\frac{4}{9}\right)$

2. $\cos^{-1}\left(\frac{1}{9}\right)$

3. $\cos^{-1}\left(\frac{8}{9}\right)$

4. $\cos^{-1}\left(\frac{5}{9}\right)$

Options :

485584157277. 1

485584157278. 2

485584157279. 3

485584157280. 4

Question Number : 875 Question Id : 48558439320 Question Type : MCQ Option Shuffling : No Is Question Mandatory : No Calculator : None Response Time : N.A Think Time : N.A Minimum Instruction Time : 0

Correct Marks : 5 Wrong Marks : 1

Question Key Details :

Key	Value
Comprehension	MCQ2

वह कोण जिसपर समतल $4x + 8y + z = 7$ का अभिलंब y-अक्ष पर झुका हो, है :

1. $\cos^{-1}\left(\frac{4}{9}\right)$

2. $\cos^{-1}\left(\frac{1}{9}\right)$

3. $\cos^{-1}\left(\frac{8}{9}\right)$

4. $\cos^{-1}\left(\frac{5}{9}\right)$

Options :

485584157277. 1

485584157278. 2

485584157279. 3

485584157280. 4

Question Number : 876 Question Id : 48558439321 Question Type : MCQ Option Shuffling : No Is Question Mandatory : No Calculator : None Response Time : N.A Think Time : N.A Minimum Instruction Time : 0

Correct Marks : 5 Wrong Marks : 1

Question Key Details :

Key	Value
Comprehension	MCQ2

If each side of a cube is x , then the angle between the diagonals of the cube is:

1. $\cos^{-1}\left(\frac{1}{\sqrt{3}}\right)$

2. $\cos^{-1}\left(\frac{1}{3}\right)$

3. $\cos^{-1}\left(-\frac{1}{\sqrt{3}}\right)$

4. $\cos^{-1}\left(-\frac{1}{3}\right)$

Options :

485584157281. 1

485584157282. 2

485584157283. 3

485584157284. 4

Question Number : 876 Question Id : 48558439321 Question Type : MCQ Option Shuffling : No Is Question Mandatory : No Calculator : None
Response Time : N.A Think Time : N.A Minimum Instruction Time : 0

Correct Marks : 5 Wrong Marks : 1

Question Key Details :

Key	Value
Comprehension	MCQ2

यदि घन की प्रत्येक भुजा x है, तो घन के विकर्णों के बीच का कोण है :

1. $\cos^{-1}\left(\frac{1}{\sqrt{3}}\right)$

2. $\cos^{-1}\left(\frac{1}{3}\right)$

3. $\cos^{-1}\left(-\frac{1}{\sqrt{3}}\right)$

4. $\cos^{-1}\left(-\frac{1}{3}\right)$

Options :

485584157281. 1

485584157282. 2

485584157283. 3

485584157284. 4

Question Number : 877 Question Id : 48558439322 Question Type : MCQ Option Shuffling : No Is Question Mandatory : No Calculator : None
Response Time : N.A Think Time : N.A Minimum Instruction Time : 0

Correct Marks : 5 Wrong Marks : 1

Question Key Details :

Key	Value
Comprehension	MCQ2

Which of the following statements is true?

- A. If the feasible region for a LPP is unbounded, maximum or minimum of the objective function $Z = ax + by$ may or may not exist.
- B. Maximum value of the objective function $Z = ax + by$ in a LPP always occurs at only one corner point of the feasible region.
- C. In a LPP, the minimum value of the objective function $Z = ax + by$ ($a, b > 0$) is always 0 if origin is one of the corner points of feasible region.
- D. In a LPP the max value of the objective function $Z = ax + by$ is always finite.

Choose the correct answer from the options given below:

- 1. B, C and D only
- 2. A and C only
- 3. A, B and C only
- 4. C and D only

Options :

485584157285. 1

485584157286. 2

485584157287. 3

485584157288. 4

Question Number : 877 Question Id : 48558439322 Question Type : MCQ Option Shuffling : No Is Question Mandatory : No Calculator : None

Response Time : N.A Think Time : N.A Minimum Instruction Time : 0

Correct Marks : 5 Wrong Marks : 1

Question Key Details :

Key	Value
Comprehension	MCQ2

निम्न में से कौन सा कथन सत्य नहीं है?

- A. यदि किसी LPP का सुसंगत क्षेत्र अपरिबद्ध है तो उद्देश्य फलन $Z = ax + by$ का अधिकतम व न्यूनतम मान अस्तित्व में हो सकता है या नहीं भी हो सकता है।
- B. उद्देश्य फलन $Z = ax + by$ का अधिकतम मान सुसंगत क्षेत्र के केवल एक कोणीय बिंदु पर होता है।
- C. किसी LPP में उद्देश्य फलन $Z = ax + by$ ($a, b > 0$) का न्यूनतम मान शून्य है, यदि मूल बिंदु एक कोणीय बिंदु है।
- D. किसी LPP में उद्देश्य फलन $Z = ax + by$ का अधिकतम मान परिमित होता है।

नीचे दिये गए विकल्पों में से सही उत्तर का चयन करें:

- 1. केवल B, C तथा D
- 2. केवल A और C
- 3. केवल A, B तथा C
- 4. केवल C तथा D

Options :

485584157285. 1

485584157286. 2

485584157287. 3

485584157288. 4

Question Number : 878 Question Id : 48558439323 Question Type : MCQ Option Shuffling : No Is Question Mandatory : No Calculator : None

Response Time : N.A Think Time : N.A Minimum Instruction Time : 0

Correct Marks : 5 Wrong Marks : 1

Question Key Details :

Key	Value
-----	-------

The corner points of the feasible region determined by the system of linear inequalities are (0, 0), (4, 0), (2, 4) and (0, 5). If the maximum value of $Z = ax + by$ where $a, b > 0$ occurs at both (2, 4) and (4, 0) then

1. $a = 2b$

2. $2a = b$

3. $a = b$

4. $3a = b$

Options :

485584157289. 1

485584157290. 2

485584157291. 3

485584157292. 4

Question Number : 878 Question Id : 48558439323 Question Type : MCQ Option Shuffling : No Is Question Mandatory : No Calculator : None
Response Time : N.A Think Time : N.A Minimum Instruction Time : 0

Correct Marks : 5 Wrong Marks : 1

Question Key Details :

Key	Value
Comprehension	MCQ2

किसी सुसंगत क्षेत्र के कोनीय बिन्दु (0, 0), (4, 0), (2, 4) एवं (0, 5) का निर्धारण रेखिक असमीकरणों के निकाय द्वारा होता है। यदि $Z = ax + by$ जहाँ $a, b > 0$ का महत्तम मान दो बिन्दुओं (2, 4) एवं (4, 0) पर स्थित हो तो -

1. $a = 2b$

2. $2a = b$

3. $a = b$

4. $3a = b$

Options :

485584157289. 1

485584157290. 2

485584157291. 3

485584157292. 4

Question Number : 879 Question Id : 48558439324 Question Type : MCQ Option Shuffling : No Is Question Mandatory : No Calculator : None
Response Time : N.A Think Time : N.A Minimum Instruction Time : 0

Correct Marks : 5 Wrong Marks : 1

Question Key Details :

Key	Value
Comprehension	MCQ2

In a box consisting 100 bulbs, 10 are defective. The probability that out of a sample of 5 bulbs, none is defective is:

1. 10^{-1}

2. $\left(\frac{1}{2}\right)^5$

3. $\left(\frac{9}{10}\right)^5$

4. $\left(\frac{9}{10}\right)$

Options :

485584157293. 1

485584157294. 2

485584157295. 3

485584157296. 4

Question Number : 879 Question Id : 48558439324 Question Type : MCQ Option Shuffling : No Is Question Mandatory : No Calculator : None Response Time : N.A Think Time : N.A Minimum Instruction Time : 0

Correct Marks : 5 Wrong Marks : 1

Question Key Details :

Key	Value
Comprehension	MCQ2

एक बक्सा जिसमें 100 बल्ब हैं, जिसमें 10 बल्ब खराब हैं, तो 5 बल्बों के प्रतिदर्श में एक भी बल्ब के खराब ना होने की प्रायिकता है :

1. 10^{-1}

2. $\left(\frac{1}{2}\right)^5$

3. $\left(\frac{9}{10}\right)^5$

4. $\left(\frac{9}{10}\right)$

Options :

485584157293. 1

485584157294. 2

485584157295. 3

485584157296. 4

Question Number : 880 Question Id : 48558439325 Question Type : MCQ Option Shuffling : No Is Question Mandatory : No Calculator : None Response Time : N.A Think Time : N.A Minimum Instruction Time : 0

Correct Marks : 5 Wrong Marks : 1

Question Key Details :

Key	Value
Comprehension	MCQ2

Which of the following are not the probability distribution of a random variable ?

A.

X	0	1	2
P(X)	0.4	0.4	0.2

B.

X	0	1	2	3	4
P(X)	0.4	0.4	0.2	-0.1	0.3

C.

Y	-1	0	1
P(Y)	0.6	0.1	0.2

D.

Z	3	2	1	0	-1
P(Z)	0.3	0.2	0.4	0.1	0.05

E.

X	0	1	2
P(X)	$\frac{25}{36}$	$\frac{10}{36}$	$\frac{1}{36}$

Choose the correct answer form the options given below:

1. A and E only
2. B, C and D only
3. A, D and E only
4. C, A and D only

Options :

- 485584157297. 1
- 485584157298. 2
- 485584157299. 3
- 485584157300. 4

Question Number : 880 Question Id : 48558439325 Question Type : MCQ Option Shuffling : No Is Question Mandatory : No Calculator : None
 Response Time : N.A Think Time : N.A Minimum Instruction Time : 0
 Correct Marks : 5 Wrong Marks : 1

Question Key Details :

Key	Value
Comprehension	MCQ2

निम्न में कौन-सा यादृच्छ चर का प्रायिकता बंटन नहीं है?

A.	X	0	1	2		
	P(X)	0.4	0.4	0.2		
B.	X	0	1	2	3	4
	P(X)	0.4	0.4	0.2	-0.1	0.3
C.	Y	-1	0	1		
	P(Y)	0.6	0.1	0.2		
D.	Z	3	2	1	0	-1
	P(Z)	0.3	0.2	0.4	0.1	0.05
E.	X	0	1	2		
	P(X)	$\frac{25}{36}$	$\frac{10}{36}$	$\frac{1}{36}$		

नीचे दिये विकल्पों में से सही उत्तर चुनें:

1. केवल A तथा E
2. केवल B, C तथा D
3. केवल A, D तथा E
4. केवल C, A तथा D

Options :

485584157297. 1
485584157298. 2
485584157299. 3

485584157300. 4

Sub-Section Number :

2

Sub-Section Id :

4855842951

Question Shuffling Allowed :

No

Is Section Default? :

null

Question Number : 881 Question Id : 48558439326 Question Type : MCQ Option Shuffling : No Is Question Mandatory : No Calculator : None Response Time : N.A Think Time : N.A Minimum Instruction Time : 0 Correct Marks : 5 Wrong Marks : 1

Question Key Details :

Key	Value
Comprehension	Compl

Set A has 4 elements and the set B has 6 elements, then the number of injective mappings that can be defined from A to B is :

1. 360
2. 15
3. 24
4. 1296

Options :

485584157301. 1
485584157302. 2
485584157303. 3
485584157304. 4

Question Number : 881 Question Id : 48558439326 Question Type : MCQ Option Shuffling : No Is Question Mandatory : No Calculator : None Response Time : N.A Think Time : N.A Minimum Instruction Time : 0

Correct Marks : 5 Wrong Marks : 1

Question Key Details :

Key	Value
Comprehension	Comp1

समुच्चय A के 4 अवयव हैं तथा समुच्चय B के 6 अवयव हैं तो A से B के बीच परिभाषित एकैकी प्रतिचित्रों की संख्या है :

1. 360
2. 15
3. 24
4. 1296

Options :

485584157301. 1
485584157302. 2
485584157303. 3
485584157304. 4

Question Number : 882 Question Id : 48558439327 Question Type : MCQ Option Shuffling : No Is Question Mandatory : No Calculator : None
Response Time : N.A Think Time : N.A Minimum Instruction Time : 0

Correct Marks : 5 Wrong Marks : 1

Question Key Details :

Key	Value
Comprehension	Comp1

The maximum value of the function $y = 2 - |x - 3|$ is :

1. 0
2. 3
3. 2
4. 5

Options :

485584157305. 1
485584157306. 2
485584157307. 3
485584157308. 4

Question Number : 882 Question Id : 48558439327 Question Type : MCQ Option Shuffling : No Is Question Mandatory : No Calculator : None
Response Time : N.A Think Time : N.A Minimum Instruction Time : 0

Correct Marks : 5 Wrong Marks : 1

Question Key Details :

Key	Value
Comprehension	Comp1

फलन $y = 2 - |x - 3|$ का अधिकतम मान है:

1. 0
2. 3
3. 2
4. 5

Options :

485584157305. 1

485584157306. 2
485584157307. 3
485584157308. 4

Question Number : 883 Question Id : 48558439328 Question Type : MCQ Option Shuffling : No Is Question Mandatory : No Calculator : None
Response Time : N.A Think Time : N.A Minimum Instruction Time : 0
Correct Marks : 5 Wrong Marks : 1

Question Key Details :

Key	Value
Comprehension	Comp1

If $xy = e^{(x-y)}$, then value of $\frac{dy}{dx}$ at (1,1) is :

1. $\frac{1}{2}$
2. 0
3. $\frac{1}{8}$
4. 1

Options :

485584157309. 1
485584157310. 2
485584157311. 3
485584157312. 4

Question Number : 883 Question Id : 48558439328 Question Type : MCQ Option Shuffling : No Is Question Mandatory : No Calculator : None
Response Time : N.A Think Time : N.A Minimum Instruction Time : 0
Correct Marks : 5 Wrong Marks : 1

Question Key Details :

Key	Value
Comprehension	Comp1

यदि $xy = e^{(x-y)}$, तो (1,1) पर $\frac{dy}{dx}$ का मान है:

1. $\frac{1}{2}$
2. 0
3. $\frac{1}{8}$
4. 1

Options :

485584157309. 1
485584157310. 2
485584157311. 3
485584157312. 4

Question Number : 884 Question Id : 48558439329 Question Type : MCQ Option Shuffling : No Is Question Mandatory : No Calculator : None
Response Time : N.A Think Time : N.A Minimum Instruction Time : 0
Correct Marks : 5 Wrong Marks : 1

Question Key Details :

Key	Value
Comprehension	Comp1

If \vec{a} and \vec{b} are two non zero vectors such that $|\vec{a}| = 10$, $|\vec{b}| = 2$ and $\vec{a} \cdot \vec{b} = 12$, then value of $|\vec{a} \times \vec{b}|$ is :

1. 5
2. 10
3. 14
4. 16

Options :

485584157313. 1
485584157314. 2
485584157315. 3
485584157316. 4

Question Number : 884 Question Id : 48558439329 Question Type : MCQ Option Shuffling : No Is Question Mandatory : No Calculator : None Response Time : N.A Think Time : N.A Minimum Instruction Time : 0 Correct Marks : 5 Wrong Marks : 1

Question Key Details :

Key	Value
Comprehension	Comp1

यदि \vec{a} एवं \vec{b} दो अशून्य सदिश इस प्रकार हैं कि $|\vec{a}| = 10$, $|\vec{b}| = 2$ तथा $\vec{a} \cdot \vec{b} = 12$, तो $|\vec{a} \times \vec{b}|$ का मान है:

1. 5
2. 10
3. 14
4. 16

Options :

485584157313. 1
485584157314. 2
485584157315. 3
485584157316. 4

Question Number : 885 Question Id : 48558439330 Question Type : MCQ Option Shuffling : No Is Question Mandatory : No Calculator : None Response Time : N.A Think Time : N.A Minimum Instruction Time : 0 Correct Marks : 5 Wrong Marks : 1

Question Key Details :

Key	Value
Comprehension	Comp1

The direction cosines of a line which makes equal angles with the co-ordinate axes is/are :

1. 1, 1, 1
2. -1, -1, -1
3. $\pm \frac{1}{\sqrt{3}}, \pm \frac{1}{\sqrt{3}}, \pm \frac{1}{\sqrt{3}}$
4. $\pm \sqrt{3}, \pm \sqrt{3}, \pm \sqrt{3}$

Options :

485584157317. 1
485584157318. 2
485584157319. 3

Question Number : 885 Question Id : 48558439330 Question Type : MCQ Option Shuffling : No Is Question Mandatory : No Calculator : None
Response Time : N.A Think Time : N.A Minimum Instruction Time : 0

Correct Marks : 5 Wrong Marks : 1

Question Key Details :

Key	Value
Comprehension	Comp1

रेखा जो निर्देशांक अक्षों के साथ समान कोण बनाता है, के दिक्-कोण्य है -

1. 1, 1, 1

2. -1, -1, -1

3. $\pm \frac{1}{\sqrt{3}}, \pm \frac{1}{\sqrt{3}}, \pm \frac{1}{\sqrt{3}}$

4. $\pm \sqrt{3}, \pm \sqrt{3}, \pm \sqrt{3}$

Options :

485584157317. 1

485584157318. 2

485584157319. 3

485584157320. 4

Applied Mathematics

Section Id :	4855841043
Section Number :	3
Section type :	Online
Mandatory or Optional :	Optional
Number of Questions :	35
Number of Questions to be attempted :	25
Section Marks :	125
Enable Mark as Answered Mark for Review and Clear Response :	Yes
Maximum Instruction Time :	0
Sub-Section Number :	1
Sub-Section Id :	4855842952
Question Shuffling Allowed :	Yes
Is Section Default? :	null

Question Number : 886 Question Id : 48558439331 Question Type : MCQ Option Shuffling : No Is Question Mandatory : No Calculator : None
Response Time : N.A Think Time : N.A Minimum Instruction Time : 0

Correct Marks : 5 Wrong Marks : 1

Question Key Details :

Key	Value
Comprehension	MCQ3

Value of $2^{48} \pmod{15}$ is:

1. 1

2. 0

3. -1

4. 7

Options :

485584157321. 1

485584157322. 2

485584157323. 3
485584157324. 4

Question Number : 886 Question Id : 48558439331 Question Type : MCQ Option Shuffling : No Is Question Mandatory : No Calculator : None
Response Time : N.A Think Time : N.A Minimum Instruction Time : 0
Correct Marks : 5 Wrong Marks : 1

Question Key Details :

Key	Value
Comprehension	MCQ3

2^{45} (मापांक 15) का मान है :

1. 1
2. 0
3. -1
4. 7

Options :

485584157321. 1
485584157322. 2
485584157323. 3
485584157324. 4

Question Number : 887 Question Id : 48558439332 Question Type : MCQ Option Shuffling : No Is Question Mandatory : No Calculator : None
Response Time : N.A Think Time : N.A Minimum Instruction Time : 0

Correct Marks : 5 Wrong Marks : 1

Question Key Details :

Key	Value
Comprehension	MCQ3

A retailer has 900 kg of wheat, a part of which he sells at 10% loss and the remaining at a profit of 8%.
Overall, he makes a profit of 6%, the quantity sold at profit is :

1. 100 kg
2. 450 kg
3. 600 kg
4. 800 kg

Options :

485584157325. 1
485584157326. 2
485584157327. 3
485584157328. 4

Question Number : 887 Question Id : 48558439332 Question Type : MCQ Option Shuffling : No Is Question Mandatory : No Calculator : None
Response Time : N.A Think Time : N.A Minimum Instruction Time : 0

Correct Marks : 5 Wrong Marks : 1

Question Key Details :

Key	Value
Comprehension	MCQ3

एक दुकानदार के पास 900 किलोग्राम गेहूँ है, जिसका कुछ भाग वह 10% की हानि पर बेचता है तथा शेष को 8% लाभ पर बेचता है। इस प्रकार वह कुल 6% का लाभ कमाता है तो लाभ पर बेची गई मात्रा है :

1. 100 किलोग्राम
2. 450 किलोग्राम
3. 600 किलोग्राम
4. 800 किलोग्राम

Options :

485584157325. 1
485584157326. 2
485584157327. 3
485584157328. 4

Question Number : 888 Question Id : 48558439333 Question Type : MCQ Option Shuffling : No Is Question Mandatory : No Calculator : None Response Time : N.A Think Time : N.A Minimum Instruction Time : 0

Correct Marks : 5 Wrong Marks : 1

Question Key Details :

Key	Value
Comprehension	MCQ3

A tank can be filled by two pipes A and B in 18 minutes and 24 minutes respectively. Another tap C can empty the full tank in 36 minutes. If the tap C is opened 6 minutes after the pipes A and B are opened, the tank will become full in a total of :

1. 6 minutes
2. 12 minutes
3. 18 minutes
4. 36 minutes

Options :

485584157329. 1
485584157330. 2
485584157331. 3
485584157332. 4

Question Number : 888 Question Id : 48558439333 Question Type : MCQ Option Shuffling : No Is Question Mandatory : No Calculator : None Response Time : N.A Think Time : N.A Minimum Instruction Time : 0

Correct Marks : 5 Wrong Marks : 1

Question Key Details :

Key	Value
Comprehension	MCQ3

एक टंकी को दो पाईप A एवं B क्रमशः 18 मिनट और 24 मिनट में भर सकते हैं। एक अन्य नल C पूरी टंकी को 36 मिनट में खाली कर सकता है। यदि नल C को पाईप A और B के खोलने के 6 मिनट बाद खोला जाता है तो टंकी कुल कितनी देर में पूर्णतया भर जाएगी?

1. 6 मिनट
2. 12 मिनट
3. 18 मिनट
4. 36 मिनट

Options :

- 485584157329. 1
- 485584157330. 2
- 485584157331. 3
- 485584157332. 4

Question Number : 889 Question Id : 48558439334 Question Type : MCQ Option Shuffling : No Is Question Mandatory : No Calculator : None Response Time : N.A Think Time : N.A Minimum Instruction Time : 0

Correct Marks : 5 Wrong Marks : 1

Question Key Details :

Key	Value
Comprehension	MCQ3

The ratio of speeds of a motor boat and that of current of water is 35:6. The boat goes against the current in 6 hours 50 minutes. The time taken by boat to come back is :

- 1. 4 hours 50 minutes
- 2. 5 hours
- 3. 5 hours 40 minutes
- 4. 6 hours 50 minutes

Options :

- 485584157333. 1
- 485584157334. 2
- 485584157335. 3
- 485584157336. 4

Question Number : 889 Question Id : 48558439334 Question Type : MCQ Option Shuffling : No Is Question Mandatory : No Calculator : None Response Time : N.A Think Time : N.A Minimum Instruction Time : 0

Correct Marks : 5 Wrong Marks : 1

Question Key Details :

Key	Value
Comprehension	MCQ3

एक मोटर नाव तथा धारा की चाल का अनुपात 35:6 है। नाव धारा के विपरीत 6 घंटे 50 मिनट में जाता है, तो इसे वापस आने में समय लगेगा :-

- 1. 4 घंटा 50 मिनट
- 2. 5 घंटा
- 3. 5 घंटा 40 मिनट
- 4. 6 घंटा 50 मिनट

Options :

- 485584157333. 1
- 485584157334. 2
- 485584157335. 3
- 485584157336. 4

Question Number : 890 Question Id : 48558439335 Question Type : MCQ Option Shuffling : No Is Question Mandatory : No Calculator : None Response Time : N.A Think Time : N.A Minimum Instruction Time : 0

Correct Marks : 5 Wrong Marks : 1

Question Key Details :

Key	Value
Comprehension	MCQ3

₹3,60,000, ₹4,20,000 and ₹4,80,000 were invested by three friends A, B and C respectively in a business. If they earned a net profit of ₹2,10,000, the share of B's profit is:

1. ₹60,000
2. ₹80,000
3. ₹75,000
4. ₹70,000

Options :

485584157337. 1
485584157338. 2
485584157339. 3
485584157340. 4

Question Number : 890 Question Id : 48558439335 Question Type : MCQ Option Shuffling : No Is Question Mandatory : No Calculator : None Response Time : N.A Think Time : N.A Minimum Instruction Time : 0 Correct Marks : 5 Wrong Marks : 1

Question Key Details :

Key	Value
Comprehension	MCQ3

तीन मित्रों A, B एवं C द्वारा किसी व्यापार में क्रमशः ₹3,60,000, ₹4,20,000 तथा ₹4,80,000 का निवेश किया गया। यदि उन्होंने ₹2,10,000 का कुल लाभ अर्जन किया तो लाभ में B की हिस्सेदारी है -

1. ₹60,000
2. ₹80,000
3. ₹75,000
4. ₹70,000

Options :

485584157337. 1
485584157338. 2
485584157339. 3
485584157340. 4

Question Number : 891 Question Id : 48558439336 Question Type : MCQ Option Shuffling : No Is Question Mandatory : No Calculator : None Response Time : N.A Think Time : N.A Minimum Instruction Time : 0 Correct Marks : 5 Wrong Marks : 1

Question Key Details :

Key	Value
Comprehension	MCQ3

The solution set of inequalities :

$x + 3 \leq 0$ and $2x + 5 \leq 0$; if $x \in \mathbb{R}$ is:

1. $(-\infty, -3)$
2. $\{\dots, -5, -4, -3\}$
3. $(-\infty, -3]$
4. $\{-3, -2, -1, 0, \dots\}$

Options :

485584157341. 1

485584157342. 2
485584157343. 3
485584157344. 4

Question Number : 891 Question Id : 48558439336 Question Type : MCQ Option Shuffling : No Is Question Mandatory : No Calculator : None
Response Time : N.A Think Time : N.A Minimum Instruction Time : 0
Correct Marks : 5 Wrong Marks : 1

Question Key Details :

Key	Value
Comprehension	MCQ3

असमताओं

$x + 3 \leq 0$ तथा $2x + 5 \leq 0$; यदि $x \in \mathbb{R}$, का हल समुच्चय है:

1. $(-\infty, -3)$
2. $\{\dots, -5, -4, -3\}$
3. $(-\infty, -3]$
4. $\{-3, -2, -1, 0, \dots\}$

Options :

485584157341. 1
485584157342. 2
485584157343. 3
485584157344. 4

Question Number : 892 Question Id : 48558439337 Question Type : MCQ Option Shuffling : No Is Question Mandatory : No Calculator : None
Response Time : N.A Think Time : N.A Minimum Instruction Time : 0

Correct Marks : 5 Wrong Marks : 1

Question Key Details :

Key	Value
Comprehension	MCQ3

If A is a symmetric matrix and $n \in \mathbb{N}$, then A^n is:

1. Symmetric matrix
2. Skew Symmetric matrix
3. A diagonal matrix
4. Zero matrix

Options :

485584157345. 1
485584157346. 2
485584157347. 3
485584157348. 4

Question Number : 892 Question Id : 48558439337 Question Type : MCQ Option Shuffling : No Is Question Mandatory : No Calculator : None
Response Time : N.A Think Time : N.A Minimum Instruction Time : 0

Correct Marks : 5 Wrong Marks : 1

Question Key Details :

Key	Value
Comprehension	MCQ3

यदि A एक सममित आव्यूह है तथा $n \in \mathbb{N}$, तो A^n होगा:

1. सममित आव्यूह
2. विषम-सममित आव्यूह
3. विकर्ण आव्यूह
4. शून्य आव्यूह

Options :

485584157345. 1
485584157346. 2
485584157347. 3
485584157348. 4

Question Number : 893 Question Id : 48558439338 Question Type : MCQ Option Shuffling : No Is Question Mandatory : No Calculator : None
Response Time : N.A Think Time : N.A Minimum Instruction Time : 0

Correct Marks : 5 Wrong Marks : 1

Question Key Details :

Key	Value
Comprehension	MCQ3

If the transpose of matrix A is matrix B, where $A = \begin{bmatrix} 2a & 1 & 3b \\ 1 & 2 & 4c \\ 5 & 6 & 0 \end{bmatrix}$ and $B = \begin{bmatrix} 4 & 1 & 5 \\ 1 & 2 & 6 \\ 9 & 3 & 0 \end{bmatrix}$ then the value of $3a + 2b + 4c$

is:

1. $\frac{23}{4}$
2. 9
3. 15
4. 17

Options :

485584157349. 1
485584157350. 2
485584157351. 3
485584157352. 4

Question Number : 893 Question Id : 48558439338 Question Type : MCQ Option Shuffling : No Is Question Mandatory : No Calculator : None

Response Time : N.A Think Time : N.A Minimum Instruction Time : 0

Correct Marks : 5 Wrong Marks : 1

Question Key Details :

Key	Value
Comprehension	MCQ3

यदि आव्यूह A का परिवर्त आव्यूह B है, जहाँ $A = \begin{bmatrix} 2a & 1 & 3b \\ 1 & 2 & 4c \\ 5 & 6 & 0 \end{bmatrix}$ तथा $B = \begin{bmatrix} 4 & 1 & 5 \\ 1 & 2 & 6 \\ 9 & 3 & 0 \end{bmatrix}$ तो $3a + 2b + 4c$ का मान है:

1. $\frac{23}{4}$
2. 9
3. 15
4. 17

Options :

485584157349. 1

485584157350. 2

485584157351. 3

485584157352. 4

Question Number : 894 Question Id : 48558439339 Question Type : MCQ Option Shuffling : No Is Question Mandatory : No Calculator : None Response Time : N.A Think Time : N.A Minimum Instruction Time : 0

Correct Marks : 5 Wrong Marks : 1

Question Key Details :

Key	Value
Comprehension	MCQ3

A matrix P of order 2×3 with each entry 0 or 1 and α is a scalar which is 3 or 4. If $R = \alpha A$, then number of matrices R formed is :

1. 63
2. 64
3. 128
4. 127

Options :

485584157353. 1

485584157354. 2

485584157355. 3

485584157356. 4

Question Number : 894 Question Id : 48558439339 Question Type : MCQ Option Shuffling : No Is Question Mandatory : No Calculator : None Response Time : N.A Think Time : N.A Minimum Instruction Time : 0

Correct Marks : 5 Wrong Marks : 1

Question Key Details :

Key	Value
Comprehension	MCQ3

2×3 कोटि का एक आव्यूह P जिसकी प्रत्येक प्रविष्टि 0 या 1 है तथा α एक अदिश है जो 3 या 4 है। यदि $R = \alpha A$ हो, तो निर्मित आव्यूहों R की संख्या होगी :

1. 63
2. 64
3. 128
4. 127

Options :

485584157353. 1

485584157354. 2
485584157355. 3
485584157356. 4

Question Number : 895 Question Id : 48558439340 Question Type : MCQ Option Shuffling : No Is Question Mandatory : No Calculator : None
Response Time : N.A Think Time : N.A Minimum Instruction Time : 0
Correct Marks : 5 Wrong Marks : 1

Question Key Details :

Key	Value
Comprehension	MCQ3

If $f(x)$ is a function which is derivable in an interval I containing a point c , then match List I with List II.

LIST I	LIST II
A. $f(x)$ has second order derivative at $x = c$ such that $f'(c) = 0$ and $f''(c) < 0$; then	I. point of inflexion of $f(x)$
B. Necessary condition for point $x = c$ to be extreme point of $f(x)$ is:	II. c is point of local minima of $f(x)$
C. If $f'(x)$ does not change its sign as x crosses the point $x = c$ then it is called a	III. c is a critical point of $f(x)$
D. $f(x)$ has second order derivative at $x = c$ such that $f'(c)$ and $f''(c) > 0$; then	IV. c is point of local maxima of $f(x)$

Choose the correct answer from the options given below:

1. A-IV, B-I, C-III, D-II
2. A-II, B-I, C-III, D-IV
3. A-II, B-III, C-I, D-IV
4. A-IV, B-III, C-I, D-II

Options :

485584157357. 1
485584157358. 2
485584157359. 3
485584157360. 4

Question Number : 895 Question Id : 48558439340 Question Type : MCQ Option Shuffling : No Is Question Mandatory : No Calculator : None
Response Time : N.A Think Time : N.A Minimum Instruction Time : 0
Correct Marks : 5 Wrong Marks : 1

Question Key Details :

Key	Value
Comprehension	MCQ3

यदि $f(x)$ एक अंतराल I जिसमें एक बिंदु c शामिल है, में अवकलनीय फलन है। तब सूची I को सूची II से मेल कीजिए।

सूची I		सूची II	
A.	$f(x)$ का $x = c$ पर द्वितीय कोटि का अवकलन इस प्रकार है कि $f'(c) = 0$ और $f''(c) < 0$ तब	I.	$f(x)$ का नतिपरिवर्तन बिंदु
B.	बिंदु $x = c$ का $f(x)$ के चरम बिंदु होने की आवश्यक शर्त है	II.	c is का स्थानीय निम्न बिंदु है।
C.	यदि $f(x)$, x के बिंदु c को काटने पर चिन्ह नहीं बदलता है, तब यह कहलाता है:	III.	c $f(x)$ का एकक्रांतिक बिंदु है।
D.	$f(x)$ का $x = c$ पर द्वितीय कोटि का अवकलन इस प्रकार है कि $f'(c)$ और $f''(c) > 0$, तब	IV.	c $f(x)$ का स्थानीय उच्च बिंदु है।

निचे दिये गये विकल्पों में से सही उत्तर चुने:

1. A-IV, B-I, C-III, D-II
2. A-II, B-I, C-III, D-IV
3. A-II, B-III, C-I, D-IV
4. A-IV, B-III, C-I, D-II

Options :

485584157357. 1
485584157358. 2
485584157359. 3
485584157360. 4

Question Number : 896 Question Id : 48558439341 Question Type : MCQ Option Shuffling : No Is Question Mandatory : No Calculator : None
Response Time : N.A Think Time : N.A Minimum Instruction Time : 0
Correct Marks : 5 Wrong Marks : 1

Question Key Details :

Key	Value
Comprehension	MCQ3

If $y = \sqrt{\log x + \sqrt{\log x + \sqrt{\log x + \sqrt{\log x + \dots}}}}$ then $\frac{dy}{dx}$ is :

1. $\frac{1}{y(2x-1)}$
2. $\frac{1}{xy-1}$
3. $\frac{1}{x(2y-1)}$
4. $\frac{1}{x(y-1)}$

Options :

485584157361. 1
485584157362. 2
485584157363. 3
485584157364. 4

Question Number : 896 Question Id : 48558439341 Question Type : MCQ Option Shuffling : No Is Question Mandatory : No Calculator : None
Response Time : N.A Think Time : N.A Minimum Instruction Time : 0
Correct Marks : 5 Wrong Marks : 1

Question Key Details :

Key	Value
Comprehension	MCQ3

यदि $y = \sqrt{\log x + \sqrt{\log x + \sqrt{\log x + \sqrt{\log x + \dots}}}}$, तो $\frac{dy}{dx}$ है :

1. $\frac{1}{y(2x-1)}$

2. $\frac{1}{xy-1}$

3. $\frac{1}{x(2y-1)}$

4. $\frac{1}{x(y-1)}$

Options :

485584157361. 1
 485584157362. 2
 485584157363. 3
 485584157364. 4

Question Number : 897 Question Id : 48558439342 Question Type : MCQ Option Shuffling : No Is Question Mandatory : No Calculator : None Response Time : N.A Think Time : N.A Minimum Instruction Time : 0

Correct Marks : 5 Wrong Marks : 1

Question Key Details :

Key	Value
Comprehension	MCQ3

The price per unit of a commodity produced by a company is given by $P = 92 - 2x^2$, where x is the quantity demanded. The marginal revenue of producing 3 units of such a commodity shall be :

1. 28

2. 38

3. 26

4. 44

Options :

485584157365. 1
 485584157366. 2
 485584157367. 3
 485584157368. 4

Question Number : 897 Question Id : 48558439342 Question Type : MCQ Option Shuffling : No Is Question Mandatory : No Calculator : None Response Time : N.A Think Time : N.A Minimum Instruction Time : 0

Correct Marks : 5 Wrong Marks : 1

Question Key Details :

Key	Value
Comprehension	MCQ3

एक कंपनी द्वारा उत्पादित एक वस्तु का प्रति इकाई मूल्य $P = 92 - 2x^2$, द्वारा दिया जाता है। इस प्रकार की वस्तु का 3 इकाइयों का उत्पादन करने पर सीमांत राजस्व होगा :

1. 28
2. 38
3. 26
4. 44

Options :

485584157365. 1
485584157366. 2
485584157367. 3
485584157368. 4

Question Number : 898 Question Id : 48558439343 Question Type : MCQ Option Shuffling : No Is Question Mandatory : No Calculator : None Response Time : N.A Think Time : N.A Minimum Instruction Time : 0 Correct Marks : 5 Wrong Marks : 1

Question Key Details :

Key	Value
Comprehension	MCQ3

For the function $f(x) = 2e^{5x} + 10$, which of the following is the most appropriate option.

1. The minimum value of f is 10.
2. f has no maximum possible value.
3. f has no minimum possible value.
4. f has neither maximum nor minimum possible value.

Options :

485584157369. 1
485584157370. 2
485584157371. 3
485584157372. 4

Question Number : 898 Question Id : 48558439343 Question Type : MCQ Option Shuffling : No Is Question Mandatory : No Calculator : None Response Time : N.A Think Time : N.A Minimum Instruction Time : 0 Correct Marks : 5 Wrong Marks : 1

Question Key Details :

Key	Value
Comprehension	MCQ3

फलन $f(x) = 2e^{5x} + 10$ के लिए निम्न में से कौन सबसे उपयुक्त विकल्प है -

1. f का न्यूनतम मान 10 है
2. f का कोई अधिकतम मान संभव नहीं है
3. f का कोई न्यूनतम मान संभव नहीं है
4. f का ना तो अधिकतम ना ही न्यूनतम मान संभव है

Options :

485584157369. 1
485584157370. 2
485584157371. 3

Question Number : 899 Question Id : 48558439344 Question Type : MCQ Option Shuffling : No Is Question Mandatory : No Calculator : None
 Response Time : N.A Think Time : N.A Minimum Instruction Time : 0
 Correct Marks : 5 Wrong Marks : 1
 Question Key Details :

Key	Value
Comprehension	MCQ3

If $x\sqrt{1+y} + y\sqrt{1+x} = 0$; $x \neq y$, then value of $\frac{d^2y}{dx^2} + 2\frac{dy}{dx}$ at $x = 1$ is:

1. 0

2. $\frac{1}{4}$ 3. $-\frac{1}{4}$ 4. $\frac{1}{8}$

Options :

485584157373. 1
 485584157374. 2
 485584157375. 3
 485584157376. 4

Question Number : 899 Question Id : 48558439344 Question Type : MCQ Option Shuffling : No Is Question Mandatory : No Calculator : None
 Response Time : N.A Think Time : N.A Minimum Instruction Time : 0
 Correct Marks : 5 Wrong Marks : 1
 Question Key Details :

Key	Value
Comprehension	MCQ3

पदि $x\sqrt{1+y} + y\sqrt{1+x} = 0$; $x \neq y$, तो $\frac{d^2y}{dx^2} + 2\frac{dy}{dx}$ का $x = 1$ पर मान है:

1. 0

2. $\frac{1}{4}$ 3. $-\frac{1}{4}$ 4. $\frac{1}{8}$

Options :

485584157373. 1
 485584157374. 2
 485584157375. 3
 485584157376. 4

Question Number : 900 Question Id : 48558439345 Question Type : MCQ Option Shuffling : No Is Question Mandatory : No Calculator : None
 Response Time : N.A Think Time : N.A Minimum Instruction Time : 0
 Correct Marks : 5 Wrong Marks : 1
 Question Key Details :

Key	Value
Comprehension	MCQ3

For a discrete random variable X, whose probability distribution is defined as :

$$P(x) = \begin{cases} 2k(x+1); & x=0, 1 \\ 3kx; & x=2 \\ k(5-x); & x=3 \end{cases}$$

The value of mean will be:

1. $\frac{6}{7}$

2. $\frac{15}{7}$

3. $\frac{12}{7}$

4. $\frac{11}{7}$

Options :

485584157377. 1

485584157378. 2

485584157379. 3

485584157380. 4

Question Number : 900 Question Id : 48558439345 Question Type : MCQ Option Shuffling : No Is Question Mandatory : No Calculator : None
Response Time : N.A Think Time : N.A Minimum Instruction Time : 0
Correct Marks : 5 Wrong Marks : 1

Question Key Details :

Key	Value
Comprehension	MCQ3

एक असतत यादृच्छ चर X के लिए, जिसकी प्रायिकता बंटन इस प्रकार परिभाषित है:

$$P(x) = \begin{cases} 2k(x+1); & x=0, 1 \\ 3kx; & x=2 \\ k(5-x); & x=3 \end{cases}$$

के माध्य का मान होगा :

1. $\frac{6}{7}$

2. $\frac{15}{7}$

3. $\frac{12}{7}$

4. $\frac{11}{7}$

Options :

485584157377. 1

485584157378. 2

485584157379. 3

485584157380. 4

Question Number : 901 Question Id : 48558439346 Question Type : MCQ Option Shuffling : No Is Question Mandatory : No Calculator : None
Response Time : N.A Think Time : N.A Minimum Instruction Time : 0

Correct Marks : 5 Wrong Marks : 1

Question Key Details :

Key	Value
Comprehension	MCQ3

Consider the following statements with respect to probability distributions:

- When mean (μ) = 1 and standard deviation (σ) = 0 for a data set, normal distribution is called standard normal distribution.
- In a normal distribution of data, z is given by $z = \frac{\mu - x}{\sigma}$
- $P(r \text{ success})$ is the $(r + 1)^{\text{th}}$ term in the binomial expansion of $(q + p)^n$.
- In a random experiment, a collection of trials is called Bernoulli, if trials are dependent by nature.
- When a random variable whose value is obtained by measuring and it takes many values between two values, it is called a continuous random variable.

Choose the correct answer from the options given below:

- C and E only
- A and B only
- B and C only
- C and D only

Options :

485584157381. 1

485584157382. 2

485584157383. 3

485584157384. 4

Question Number : 901 Question Id : 48558439346 Question Type : MCQ Option Shuffling : No Is Question Mandatory : No Calculator : None Response Time : N.A Think Time : N.A Minimum Instruction Time : 0

Correct Marks : 5 Wrong Marks : 1

Question Key Details :

Key	Value
Comprehension	MCQ3

प्रायिकता बंटन के संदर्भ में निम्नलिखित कथनों पर विचार करें:

- एक डाटा समुच्चय में, यदि माध्य (μ) = 1 और मानक विचलन (σ) = 0, प्रसमान्य बंटन को मानक प्रसमान्य बंटन कहा जाता है।
- आंकड़ों के प्रसमान्य बंटन में z , $z = \frac{\mu - x}{\sigma}$ द्वारा दिया जाता है।
- $(q + p)^n$ के द्विपद विस्तार में $(r + 1)$ वाँ पद $P(r \text{ सफलताएँ})$ है।
- एक यादृच्छिक प्रयोग में, प्रयासों का समुच्चय बरनौली कहलाता है यदि प्रयास गुणधर्म से निर्भर है।
- जब एक यादृच्छिक चर जिसका मान मापन द्वारा लिया जाता है और यह दो मानों के बीच बहुत से मान लेता है तब उसे सतत यादृच्छिक चर कहते हैं।

नीचे दिए गए विकल्पों में से सही उत्तर का चयन कीजिए :

- केवल C और E
- केवल A और B
- केवल B और C
- केवल C और D

Options :

485584157381. 1

485584157382. 2

485584157383. 3

485584157384. 4

Question Number : 902 Question Id : 48558439347 Question Type : MCQ Option Shuffling : No Is Question Mandatory : No Calculator : None
Response Time : N.A Think Time : N.A Minimum Instruction Time : 0
Correct Marks : 5 Wrong Marks : 1

Question Key Details :

Key	Value
Comprehension	MCQ3

A die is thrown n times. A random variable X denotes the number of times, the number on the dice is greater than 4 and $P(X = 1) = 2P(X = 2)$. The value of n is:

1. 2
2. 3
3. 4
4. 5

Options :

485584157385. 1
485584157386. 2
485584157387. 3
485584157388. 4

Question Number : 902 Question Id : 48558439347 Question Type : MCQ Option Shuffling : No Is Question Mandatory : No Calculator : None
Response Time : N.A Think Time : N.A Minimum Instruction Time : 0
Correct Marks : 5 Wrong Marks : 1

Question Key Details :

Key	Value
Comprehension	MCQ3

एक पासे को n बार फेंका गया। एक यादरू चर X पासे पर 4 से अधिक संख्या जितनी बार आती है, को सूचित करता है तथा $P(X = 1) = 2P(X = 2)$, तो n का मान है :

1. 2
2. 3
3. 4
4. 5

Options :

485584157385. 1
485584157386. 2
485584157387. 3
485584157388. 4

Question Number : 903 Question Id : 48558439348 Question Type : MCQ Option Shuffling : No Is Question Mandatory : No Calculator : None
Response Time : N.A Think Time : N.A Minimum Instruction Time : 0
Correct Marks : 5 Wrong Marks : 1

Question Key Details :

Key	Value
Comprehension	MCQ3

Two balls are chosen randomly from an urn containing 8 white and 4 black balls by a player. Suppose that he wins ₹30 for each black ball selected and loses ₹15 for each white ball selected. The expected value of winning amount is:

1. ₹12.72
2. ₹14.72
3. ₹15
4. ₹00

Options :

485584157389. 1
485584157390. 2
485584157391. 3
485584157392. 4

Question Number : 903 Question Id : 48558439348 Question Type : MCQ Option Shuffling : No Is Question Mandatory : No Calculator : None Response Time : N.A Think Time : N.A Minimum Instruction Time : 0 Correct Marks : 5 Wrong Marks : 1

Question Key Details :

Key	Value
Comprehension	MCQ3

एक खिलाड़ी द्वारा एक बर्तन जिसमें 8 सफेद और 4 काली गेंदें हैं, दो गेंदें यादृच्छिक रूप से चुनी जाती हैं। मान कि प्रत्येक काली गेंद के चुने जाने पर वह ₹30 जीत जाता है और प्रत्येक सफेद गेंद चुने जाने पर ₹15 हार जाता है। जीती गई राशि का प्रत्याशित मूल्य है :

1. ₹12.72
2. ₹14.72
3. ₹15
4. ₹00

Options :

485584157389. 1
485584157390. 2
485584157391. 3
485584157392. 4

Question Number : 904 Question Id : 48558439349 Question Type : MCQ Option Shuffling : No Is Question Mandatory : No Calculator : None Response Time : N.A Think Time : N.A Minimum Instruction Time : 0 Correct Marks : 5 Wrong Marks : 1

Question Key Details :

Key	Value
Comprehension	MCQ3

Consider the following statements:

- A. Cost of living at two different cities can be compared with volume index.
- B. When the prices of rice are to be compared we use price index.
- C. In Laspeyre's price index number weight is considered as price in current year.
- D. Purchasing power of money can be assessed through consumer price index.
- E. Fisher Index number is called ideal index number.

Choose the correct answer from the options given below:

- 1. A and B only
- 2. B, D and E only
- 3. A, B and C only
- 4. C only

Options :

485584157393. 1

485584157394. 2

485584157395. 3

485584157396. 4

Question Number : 904 Question Id : 48558439349 Question Type : MCQ Option Shuffling : No Is Question Mandatory : No Calculator : None

Response Time : N.A Think Time : N.A Minimum Instruction Time : 0

Correct Marks : 5 Wrong Marks : 1

Question Key Details :

Key	Value
Comprehension	MCQ3

निम्नलिखित कथनों पर विचार करें :

- A. दो विभिन्न शहरों में जीवन यापन की लागत की तुलना आयतन सूचकांक द्वारा की जा सकती है।
- B. जब चावल के मूल्यों की तुलना की जाती है, तब हम मूल्य सूचकांक प्रयोग करते हैं।
- C. लासपेयरे मूल्य सूचकांक में भार, चालू वर्ष में मूल्य के रूप में जाना जाता है।
- D. मुद्रा की क्रय शक्ति उपभोक्ता मूल्य सूचकांक द्वारा निर्धारित की जा सकती है।
- E. फिशर सूचकांक को आदर्श सूचकांक कहा जाता है।

नीचे दिए गए विकल्पों में से सही उत्तर का चयन कीजिए :

- 1. केवल A और B
- 2. केवल B, D और E
- 3. केवल A, B और C
- 4. केवल C

Options :

485584157393. 1

485584157394. 2

485584157395. 3

485584157396. 4

Question Number : 905 Question Id : 48558439350 Question Type : MCQ Option Shuffling : No Is Question Mandatory : No Calculator : None

Response Time : N.A Think Time : N.A Minimum Instruction Time : 0

Correct Marks : 5 Wrong Marks : 1

Question Key Details :

Key	Value
Comprehension	MCQ3

Match List I with List II

LIST I		LIST II	
A.	Marshall Edgeworth's Index Number	I.	$\frac{\sum P_1 q_0}{\sum P_0 q_0} \times 100$
B.	Laspeyre's Index Number	II.	$\sqrt{\frac{\sum P_1 q_0}{\sum P_0 q_0} \times \frac{\sum P_1 q_1}{\sum P_0 q_1}} \times 100$
C.	Fisher's Ideal Index Number	III.	$\frac{\sum P_1 q_1}{\sum P_0 q_1} \times 100$
D.	Pasche's Index Number	IV.	$\frac{\sum P_1 (q_0 + q_1)}{\sum P_0 (q_0 + q_1)} \times 100$

Choose the correct answer from the options given below:

1. A-I, B-II, C-IV, D-III
2. A-IV, B-I, C-II, D-III
3. A-II, B-IV, C-III, D-I
4. A-III, B-I, C-II, D-IV

Options :

485584157397. 1
 485584157398. 2
 485584157399. 3
 485584157400. 4

Question Number : 905 Question Id : 48558439350 Question Type : MCQ Option Shuffling : No Is Question Mandatory : No Calculator : None
 Response Time : N.A Think Time : N.A Minimum Instruction Time : 0
 Correct Marks : 5 Wrong Marks : 1
 Question Key Details :

Key	Value
Comprehension	MCQ3

सूची I का सूची II से मिलान कीजिए

सूची I		सूची II	
A.	मार्शल ऐजवर्थ सूचकांक	I.	$\frac{\sum P_1 q_0}{\sum P_0 q_0} \times 100$
B.	लेस्पेयर सूचकांक	II.	$\sqrt{\frac{\sum P_1 q_0}{\sum P_0 q_0} \times \frac{\sum P_1 q_1}{\sum P_0 q_1}} \times 100$
C.	फिशर का आदर्श सूचकांक	III.	$\frac{\sum P_1 q_1}{\sum P_0 q_1} \times 100$
D.	पाश्चे सूचकांक	IV.	$\frac{\sum P_1 (q_0 + q_1)}{\sum P_0 (q_0 + q_1)} \times 100$

निम्नलिखित विकल्पों में से सही उत्तर का चयन कीजिए :

1. A-I, B-II, C-IV, D-III
2. A-IV, B-I, C-II, D-III
3. A-II, B-IV, C-III, D-I
4. A-III, B-I, C-II, D-IV

Options :

485584157397. 1

485584157398. 2
485584157399. 3
485584157400. 4

Question Number : 906 Question Id : 48558439351 Question Type : MCQ Option Shuffling : No Is Question Mandatory : No Calculator : None
Response Time : N.A Think Time : N.A Minimum Instruction Time : 0
Correct Marks : 5 Wrong Marks : 1
Question Key Details :

Key	Value
Comprehension	MCQ3

Consider the table below on the quantities of commodities alongside their prices in the year 2020 and 2022.

Commodity	Prices(₹)		Quantities	
	In 2020 Year	In 2022 Year	In 2020 Year	In 2022 Year
A	1	2	5	6
B	3	4	3	4
C	5	6	2	5
D	4	5	1	3
E	3	4	4	6

The value of $\sum p_1 q_0$ is :

1. 40
2. 55
3. 73
4. 97

Options :

485584157401. 1
485584157402. 2
485584157403. 3
485584157404. 4

Question Number : 906 Question Id : 48558439351 Question Type : MCQ Option Shuffling : No Is Question Mandatory : No Calculator : None
Response Time : N.A Think Time : N.A Minimum Instruction Time : 0
Correct Marks : 5 Wrong Marks : 1
Question Key Details :

Key	Value
Comprehension	MCQ3

दी गई तालिका पर विचार करें जो वस्तुओं की मात्रा तथा वर्ष 2020 तथा 2022 में उनकी कीमत को दर्शाता है :

वस्तु	कीमत (₹)		मात्रा	
	वर्ष 2020 में	वर्ष 2022 में	वर्ष 2020 में	वर्ष 2022 में
A	1	2	5	6
B	3	4	3	4
C	5	6	2	5
D	4	5	1	3
E	3	4	4	6

$\sum P_1 Q_0$ का मान है:

1. 40
2. 55
3. 73
4. 97

Options :

485584157401. 1
485584157402. 2
485584157403. 3
485584157404. 4

Question Number : 907 Question Id : 48558439352 Question Type : MCQ Option Shuffling : No Is Question Mandatory : No Calculator : None Response Time : N.A Think Time : N.A Minimum Instruction Time : 0

Correct Marks : 5 Wrong Marks : 1

Question Key Details :

Key	Value
Comprehension	MCQ3

The following data is taken from a simple random sample :

3, 7, 5, 9, 15, 11, 8, 4, 6, 2

The point estimate of the population standard deviation is:

1. $\frac{2}{3}$
2. $\frac{4}{9}$
3. $\frac{2}{3}\sqrt{35}$
4. $\frac{4}{9}\sqrt{35}$

Options :

485584157405. 1
485584157406. 2
485584157407. 3
485584157408. 4

Question Number : 907 Question Id : 48558439352 Question Type : MCQ Option Shuffling : No Is Question Mandatory : No Calculator : None Response Time : N.A Think Time : N.A Minimum Instruction Time : 0

Correct Marks : 5 Wrong Marks : 1

Question Key Details :

Key	Value
Comprehension	MCQ3

निम्नलिखित आँकड़े एक प्रतिदर्श यादृच्छ प्रतिचयन से लिए गये हैं :

3, 7, 5, 9, 15, 11, 8, 4, 6, 2

समष्टि मानक विचलन का बिन्दु आकल है:

1. $\frac{2}{3}$

2. $\frac{4}{9}$

3. $\frac{2}{3}\sqrt{35}$

4. $\frac{4}{9}\sqrt{35}$

Options :

485584157405. 1

485584157406. 2

485584157407. 3

485584157408. 4

Question Number : 908 Question Id : 48558439353 Question Type : MCQ Option Shuffling : No Is Question Mandatory : No Calculator : None

Response Time : N.A Think Time : N.A Minimum Instruction Time : 0

Correct Marks : 5 Wrong Marks : 1

Question Key Details :

Key	Value
Comprehension	MCQ3

For a certain data test statistic T is calculated as: $|t| = \left| \frac{65 - 68}{\frac{4}{\sqrt{15}}} \right| = 2.90$, then select the correct option :

1. $\bar{x} = 68; \mu = 65, n = 16$

2. $\bar{x} = 65; \mu = 68, n = 16$

3. $\bar{x} = 15; n = 4, \mu = 3$

4. $\bar{x} = 65; \mu = 68, n = 14$

Options :

485584157409. 1

485584157410. 2

485584157411. 3

485584157412. 4

Question Number : 908 Question Id : 48558439353 Question Type : MCQ Option Shuffling : No Is Question Mandatory : No Calculator : None

Response Time : N.A Think Time : N.A Minimum Instruction Time : 0

Correct Marks : 5 Wrong Marks : 1

Question Key Details :

Key	Value
Comprehension	MCQ3

किसी निश्चित आंकड़े के लिए परीक्षण प्रतिदर्शन 't' की गणना इस प्रकार है : $|t| = \frac{65 - 68}{\frac{4}{\sqrt{15}}} = 2.90$, तो निम्न में से सही विकल्प है:

1. $\bar{x} = 68; \mu = 65, n = 16$
2. $\bar{x} = 65; \mu = 68, n = 16$
3. $\bar{x} = 15; n = 4, \mu = 3$
4. $\bar{x} = 65; \mu = 68, n = 14$

Options :

485584157409. 1
485584157410. 2
485584157411. 3
485584157412. 4

Question Number : 909 Question Id : 48558439354 Question Type : MCQ Option Shuffling : No Is Question Mandatory : No Calculator : None Response Time : N.A Think Time : N.A Minimum Instruction Time : 0

Correct Marks : 5 Wrong Marks : 1

Question Key Details :

Key	Value
Comprehension	MCQ3

Suppose that a 95% confidence interval states that population mean is greater than 100 and less than 300. Then the value of sample mean (\bar{x}) and margin of error (E) respectively are:

1. 150, ± 100
2. 100, ± 100
3. 250, ± 50
4. 200, ± 100

Options :

485584157413. 1
485584157414. 2
485584157415. 3
485584157416. 4

Question Number : 909 Question Id : 48558439354 Question Type : MCQ Option Shuffling : No Is Question Mandatory : No Calculator : None Response Time : N.A Think Time : N.A Minimum Instruction Time : 0

Correct Marks : 5 Wrong Marks : 1

Question Key Details :

Key	Value
Comprehension	MCQ3

मान लीजिए कि 95% विश्वस्यता अन्तराल के अनुसार समष्टि माध्य 100 से अधिक किन्तु 300 से कम होता है तो प्रतिदर्श माध्य (\bar{x}) तथा उपांत त्रुटि का मान (E) क्रमशः है -

1. 150, ± 100
2. 100, ± 100
3. 250, ± 50
4. 200, ± 100

Options :

48558415/413. 1

485584157414. 2

485584157415. 3

485584157416. 4

Question Number : 910 Question Id : 48558439355 Question Type : MCQ Option Shuffling : No Is Question Mandatory : No Calculator : None
Response Time : N.A Think Time : N.A Minimum Instruction Time : 0

Correct Marks : 5 Wrong Marks : 1

Question Key Details :

Key	Value
Comprehension	MCQ3

Shyam takes a loan of ₹5,00,000 with 8% annual interest rate for 10 years. The value of EMI under flat rate system is:

1. ₹4166.67

2. ₹7500

3. ₹8332

4. ₹50000

Options :

485584157417. 1

485584157418. 2

485584157419. 3

485584157420. 4

Question Number : 910 Question Id : 48558439355 Question Type : MCQ Option Shuffling : No Is Question Mandatory : No Calculator : None
Response Time : N.A Think Time : N.A Minimum Instruction Time : 0

Correct Marks : 5 Wrong Marks : 1

Question Key Details :

Key	Value
Comprehension	MCQ3

श्याम ₹5,00,000 का एक ऋण 8% वार्षिक ब्याज की दर से 10 वर्षों के लिए लेता है। सपाट दर विधि के अन्तर्गत समान मासिक किस्त का मान है:

1. ₹4166.67

2. ₹7500

3. ₹8332

4. ₹50000

Options :

485584157417. 1

485584157418. 2

485584157419. 3

485584157420. 4

Question Number : 911 Question Id : 48558439356 Question Type : MCQ Option Shuffling : No Is Question Mandatory : No Calculator : None
Response Time : N.A Think Time : N.A Minimum Instruction Time : 0

Correct Marks : 5 Wrong Marks : 1

Question Key Details :

Key	Value
Comprehension	MCQ3

A machine costing ₹ one lakh depreciates at constant rate 10%. Estimated useful life of machine is 8 years.

Match List I with List II

LIST I		LIST II	
A.	Total depreciation in 2nd and 3rd year is	I.	₹81,000
B.	Value of machine after one year is	II.	₹17,100
C.	Value of machine after 2 years is:	III.	₹43050
D.	Scrap value of machine is ; given $(1.1)^8 = 2.144$ & $(0.9)^8 = 0.4305$	IV.	₹90,000

Choose the correct answer from the options given below:

1. A-II, B-III, C-IV, D-I
2. A-II, B-IV, C-III, D-I
3. A-II, B-IV, C-I, D-III
4. A-II, B-I, C-IV, D-III

Options :

485584157421. 1
485584157422. 2
485584157423. 3
485584157424. 4

Question Number : 911 **Question Id :** 48558439356 **Question Type :** MCQ **Option Shuffling :** No **Is Question Mandatory :** No **Calculator :** None **Response Time :** N.A **Think Time :** N.A **Minimum Instruction Time :** 0

Correct Marks : 5 **Wrong Marks :** 1

Question Key Details :

Key	Value
Comprehension	MCQ3

एक मशीन जिसकी कीमत एक लाख रुपये है 10% की नियत दर से घट रहा है। यदि मशीन का अनुमानित जीवन काल 8 वर्ष हो तो,

सूची I का सूची II से मिलान कीजिए

सूची I		सूची II	
A.	दूसरे व तीसरे वर्ष में कुल अवमूल्यन	I.	₹81,000
B.	1 वर्ष पश्चात मशीन की कीमत	II.	₹17,100
C.	2 वर्ष पश्चात मशीन की कीमत	III.	₹43050
D.	मशीन की अपघटित कीमत ; दिया है $(1.1)^8 = 2.144$ & $(0.9)^8 = 0.4305$	IV.	₹90,000

निम्नलिखित विकल्पों में से सही उत्तर का चयन कीजिए :

1. A-II, B-III, C-IV, D-I
2. A-II, B-IV, C-III, D-I
3. A-II, B-IV, C-I, D-III
4. A-II, B-I, C-IV, D-III

Options :

485584157421. 1
485584157422. 2
485584157423. 3
485584157424. 4

Question Number : 912 Question Id : 48558439357 Question Type : MCQ Option Shuffling : No Is Question Mandatory : No Calculator : None
Response Time : N.A Think Time : N.A Minimum Instruction Time : 0

Correct Marks : 5 Wrong Marks : 1

Question Key Details :

Key	Value
Comprehension	MCQ3

A bond of face value ₹1000 matures in 10 years and interest is paid annually at 4% per annum. If the present value of the bond is ₹838, find the yield to maturity $(1.04)^{-10} \approx 0.676$.

1. 1.6% p.a.
2. 2.0% p.a.
3. 2.6% p.a.
4. 3.2% p.a.

Options :

485584157425. 1
485584157426. 2
485584157427. 3
485584157428. 4

Question Number : 912 Question Id : 48558439357 Question Type : MCQ Option Shuffling : No Is Question Mandatory : No Calculator : None
Response Time : N.A Think Time : N.A Minimum Instruction Time : 0

Correct Marks : 5 Wrong Marks : 1

Question Key Details :

Key	Value
Comprehension	MCQ3

₹1000 अंकित मूल्य वाला बॉन्ड 10 वर्ष में परिपक्व हो जात है तथा इसपर 4% प्रति वर्ष की दर से व्याज देय है। यदि बॉन्ड का वर्तमान मूल्य ₹838 है तो परिपक्वता पर प्राप्ति दर है : $(1.04)^{-10} \approx 0.676$.

1. 1.6% प्रतिवर्ष
2. 2.0% प्रतिवर्ष
3. 2.6% प्रतिवर्ष
4. 3.2% प्रतिवर्ष

Options :

485584157425. 1
485584157426. 2
485584157427. 3
485584157428. 4

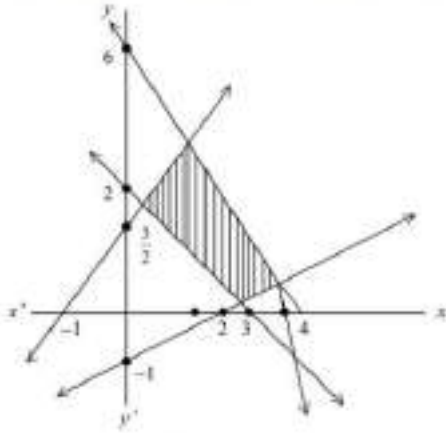
Question Number : 913 Question Id : 48558439358 Question Type : MCQ Option Shuffling : No Is Question Mandatory : No Calculator : None
Response Time : N.A Think Time : N.A Minimum Instruction Time : 0

Correct Marks : 5 Wrong Marks : 1

Question Key Details :

Key	Value
Comprehension	MCQ3

Consider the following feasible region. Which of the following constraints represents the feasible region?



- A. $2x + 3y \leq 6$
- B. $x - 2y \leq 2$
- C. $3x + 2y \leq 12$
- D. $3x - 2y \leq -3$
- E. $x - 2y \geq -1$

Choose the correct answer from the options given below:

1. A, C and E only
2. B, D and E only
3. B and C only
4. A, B and D only

Options :

- 485584157429. 1
- 485584157430. 2
- 485584157431. 3
- 485584157432. 4

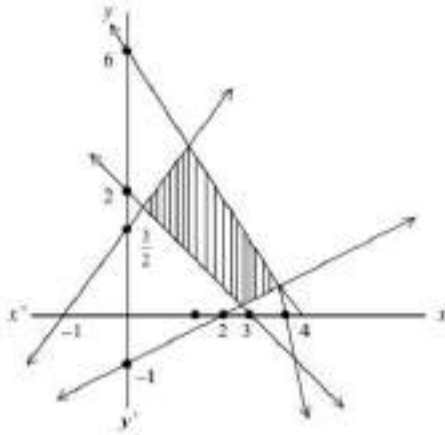
Question Number : 913 Question Id : 48558439358 Question Type : MCQ Option Shuffling : No Is Question Mandatory : No Calculator : None Response Time : N.A Think Time : N.A Minimum Instruction Time : 0

Correct Marks : 5 Wrong Marks : 1

Question Key Details :

Key	Value
Comprehension	MCQ3

निम्न सुसंगत क्षेत्र पर विचार करें। निम्न में कौन से व्यतिरोध सुसंगत क्षेत्र को निरूपित करते हैं?



- A. $2x + 3y \leq 6$
- B. $x - 2y \leq 2$
- C. $3x + 2y \leq 12$
- D. $3x - 2y \leq -3$
- E. $x - 2y \geq -1$

नीचे दिये गये विकल्पों में से सही उत्तर चुनें :

1. केवल A, C और E
2. केवल B, D और E
3. केवल B और C
4. केवल A, B और D

Options :

- 485584157429. 1
- 485584157430. 2
- 485584157431. 3
- 485584157432. 4

Question Number : 914 Question Id : 48558439359 Question Type : MCQ Option Shuffling : No Is Question Mandatory : No Calculator : None
 Response Time : N.A Think Time : N.A Minimum Instruction Time : 0
 Correct Marks : 5 Wrong Marks : 1

Question Key Details :

Key	Value
Comprehension	MCQ3

The graph of the inequality $3x - 2y > 6$ is

1. Half plane that contains origin
2. Half plane that neither contains origin nor the points on the line $3x - 2y = 6$
3. Whole XOY-plane excluding points on $2x + 3y = 6$
4. Entire XOY-plane

Options :

- 485584157433. 1
- 485584157434. 2
- 485584157435. 3
- 485584157436. 4

Question Number : 914 Question Id : 48558439359 Question Type : MCQ Option Shuffling : No Is Question Mandatory : No Calculator : None
Response Time : N.A Think Time : N.A Minimum Instruction Time : 0

Correct Marks : 5 Wrong Marks : 1

Question Key Details :

Key	Value
Comprehension	MCQ3

असमता $3x - 2y > 6$ का ग्राफ है :

1. अर्द्ध तल जिसमें मूल बिन्दु शामिल है।
2. अर्द्ध तल जिसमें ना तो मूल बिन्दु शामिल है ना ही रेखा $3x - 2y = 6$ पर स्थित कोई बिन्दु
3. संपूर्ण XOY तल जिसमें $2x + 3y = 6$ पर स्थित बिन्दु शामिल ना हो
4. संपूर्ण XOY तल

Options :

485584157433. 1

485584157434. 2

485584157435. 3

485584157436. 4

Question Number : 915 Question Id : 48558439360 Question Type : MCQ Option Shuffling : No Is Question Mandatory : No Calculator : None
Response Time : N.A Think Time : N.A Minimum Instruction Time : 0

Correct Marks : 5 Wrong Marks : 1

Question Key Details :

Key	Value
Comprehension	MCQ3

An electric company has 300 Transistors, 400 Capacitors and 500 Inductors. The company wishes to make electronic goods using two circuits A and B. Requirement by circuit is as follows:

	Transistor	Capacitor	Inductor
A	175	300	200
B	125	100	300

The profit from circuit A and B is ₹2000 and ₹3000 respectively then constraints of the LLP based on this data are :

1. $7x + 5y \leq 12; 3x + y \leq 4; 2x + 3y \leq 5; x, y \geq 0;$
2. $7x + 5y \leq 12; x + 3y \leq 4; 2x + 3y \leq 5; x, y \geq 0$
3. $7x + 5y \geq 12; 3x + y \geq 4; 2x + 3y \geq 5; x, y \geq 0;$
4. $7x + 5y \leq 12; 3x + y = 4; 2x + 3y \leq 5; x, y \geq 0;$

Options :

485584157437. 1

485584157438. 2

485584157439. 3

485584157440. 4

Question Number : 915 Question Id : 48558439360 Question Type : MCQ Option Shuffling : No Is Question Mandatory : No Calculator : None
Response Time : N.A Think Time : N.A Minimum Instruction Time : 0

Correct Marks : 5 Wrong Marks : 1

Question Key Details :

Key	Value
Comprehension	MCQ3

एक विद्युत कंपनी के पास 300 ट्रांजिस्टर, 400 संधारित्र तथा 500 प्रेरक हैं। कंपनी विद्युत सामग्री को परिपथ A एवं B की मदद से बनाना चाहती है। परिपथों की आवश्यकता नीचे दी गयी हैं :

	ट्रांजिस्टर	संधारित्र	प्रेरक
A	175	300	200
B	125	100	300

परिपथ A एवं B से लाभ क्रमशः ₹2000 और ₹3000 है तब इस डाटा पर आधारित रेखिक प्रोग्रामन समस्या के व्यवरोध हैं :

- $7x + 5y \leq 12; 3x + y \leq 4; 2x + 3y \leq 5; x, y \geq 0;$
- $7x + 5y \leq 12; x + 3y \leq 4; 2x + 3y \leq 5; x, y \geq 0$
- $7x + 5y \geq 12; 3x + y \geq 4; 2x + 3y \geq 5; x, y \geq 0;$
- $7x + 5y \leq 12; 3x + y = 4; 2x + 3y \leq 5; x, y \geq 0;$

Options :

485584157437. 1
485584157438. 2
485584157439. 3
485584157440. 4

Sub-Section Number :

2

Sub-Section Id :

4855842953

Question Shuffling Allowed :

No

Is Section Default? :

null

Question Number : 916 Question Id : 48558439361 Question Type : MCQ Option Shuffling : No Is Question Mandatory : No Calculator : None

Response Time : N.A Think Time : N.A Minimum Instruction Time : 0

Correct Marks : 5 Wrong Marks : 1

Question Key Details :

Key	Value
Comprehension	Comp2

In a 1000 m race, A beats B by 50 meters or 10 seconds. The time taken by A to complete the race is:

- 150 seconds
- 200 seconds
- 190 seconds
- 250 seconds

Options :

485584157441. 1
485584157442. 2
485584157443. 3
485584157444. 4

Question Number : 916 Question Id : 48558439361 Question Type : MCQ Option Shuffling : No Is Question Mandatory : No Calculator : None

Response Time : N.A Think Time : N.A Minimum Instruction Time : 0

Correct Marks : 5 Wrong Marks : 1

Question Key Details :

Key	Value
Comprehension	Comp2

1000 मी. के एक दौड़ में A, B को 50 मीटर या 10 सेकेंड से हराता है। A को दौड़ पूरा करने में लगा समय है :

1. 150 सेकेंड
2. 200 सेकेंड
3. 190 सेकेंड
4. 250 सेकेंड

Options :

485584157441. 1
485584157442. 2
485584157443. 3
485584157444. 4

Question Number : 917 Question Id : 48558439362 Question Type : MCQ Option Shuffling : No Is Question Mandatory : No Calculator : None
Response Time : N.A Think Time : N.A Minimum Instruction Time : 0

Correct Marks : 5 Wrong Marks : 1

Question Key Details :

Key	Value
Comprehension	Comp2

If $y = 4t^2$, $y = \frac{3}{t^3}$, then $\frac{d^2y}{dx^2}$ at $t = 1$ is :

1. $\frac{15}{8}$
2. $\frac{2}{3}$
3. $\frac{15}{16}$
4. $\frac{45}{64}$

Options :

485584157445. 1
485584157446. 2
485584157447. 3
485584157448. 4

Question Number : 917 Question Id : 48558439362 Question Type : MCQ Option Shuffling : No Is Question Mandatory : No Calculator : None
Response Time : N.A Think Time : N.A Minimum Instruction Time : 0

Correct Marks : 5 Wrong Marks : 1

Question Key Details :

Key	Value
Comprehension	Comp2

यदि $x = 4t^2$, $y = \frac{3}{t^3}$, तो $t = 1$ पर $\frac{d^2y}{dx^2}$ का मान है :

1. $\frac{15}{8}$

2. $\frac{2}{3}$

3. $\frac{15}{16}$

4. $\frac{45}{64}$

Options :

485584157445. 1

485584157446. 2

485584157447. 3

485584157448. 4

Question Number : 918 Question Id : 48558439363 Question Type : MCQ Option Shuffling : No Is Question Mandatory : No Calculator : None Response Time : N.A Think Time : N.A Minimum Instruction Time : 0

Correct Marks : 5 Wrong Marks : 1

Question Key Details :

Key	Value
Comprehension	Comp2

In a binomial distribution, the probability of getting a success is $\frac{1}{3}$ and the standard deviation is 4. Then its mean is :

1. 8

2. 24

3. 16

4. 32

Options :

485584157449. 1

485584157450. 2

485584157451. 3

485584157452. 4

Question Number : 918 Question Id : 48558439363 Question Type : MCQ Option Shuffling : No Is Question Mandatory : No Calculator : None Response Time : N.A Think Time : N.A Minimum Instruction Time : 0

Correct Marks : 5 Wrong Marks : 1

Question Key Details :

Key	Value
Comprehension	Comp2

किसी द्विपद बंटन में एक सफलता प्राप्त करने की प्रायिकता $\frac{1}{3}$ तथा मानक विचलन 4 है तो माध्य है :

1. 8
2. 24
3. 16
4. 32

Options :

- 485584157449. 1
- 485584157450. 2
- 485584157451. 3
- 485584157452. 4

Question Number : 919 Question Id : 48558439364 Question Type : MCQ Option Shuffling : No Is Question Mandatory : No Calculator : None Response Time : N.A Think Time : N.A Minimum Instruction Time : 0 Correct Marks : 5 Wrong Marks : 1

Question Key Details :

Key	Value
Comprehension	Comp2

For the given five values 17, 26, 20, 35, 44, the three years moving averages are :

1. 19, 25, 31
2. 18, 20, 32
3. 15, 17, 22
4. 21, 27, 33

Options :

- 485584157453. 1
- 485584157454. 2
- 485584157455. 3
- 485584157456. 4

Question Number : 919 Question Id : 48558439364 Question Type : MCQ Option Shuffling : No Is Question Mandatory : No Calculator : None Response Time : N.A Think Time : N.A Minimum Instruction Time : 0

Correct Marks : 5 Wrong Marks : 1

Question Key Details :

Key	Value
Comprehension	Comp2

दिये गये पांच मानों के लिए 17, 26, 20, 35, 44 तीन वर्षीय चल औसत है :

1. 19, 25, 31
2. 18, 20, 32
3. 15, 17, 22
4. 21, 27, 33

Options :

- 485584157453. 1
- 485584157454. 2
- 485584157455. 3
- 485584157456. 4

Question Number : 920 Question Id : 48558439365 Question Type : MCQ Option Shuffling : No Is Question Mandatory : No Calculator : None
Response Time : N.A Think Time : N.A Minimum Instruction Time : 0

Correct Marks : 5 Wrong Marks : 1

Question Key Details :

Key	Value
Comprehension	Comp2

A vehicle whose cost is ₹7,00,000 will depreciate to a scrap value of ₹1,50,000 in 5 years. Using linear method of depreciation, the book value of the vehicle at the end of third year is:

1. ₹1,10,000
2. ₹3,70,000
3. ₹2,70,000
4. ₹2,50,000

Options :

485584157457. 1
485584157458. 2
485584157459. 3
485584157460. 4

Question Number : 920 Question Id : 48558439365 Question Type : MCQ Option Shuffling : No Is Question Mandatory : No Calculator : None
Response Time : N.A Think Time : N.A Minimum Instruction Time : 0

Correct Marks : 5 Wrong Marks : 1

Question Key Details :

Key	Value
Comprehension	Comp2

एक वाहन जिसकी कीमत ₹7,00,000 है, 5 वर्षों में घटकर इसका अपघर्षित मूल्य ₹1,50,000 हो जाएगा। अतमूल्यन की रेखिक विधि का प्रयोग कर तीसरे वर्ष के अंत में वाहन की कीमत होगी :

1. ₹1,10,000
2. ₹3,70,000
3. ₹2,70,000
4. ₹2,50,000

Options :

485584157457. 1
485584157458. 2
485584157459. 3
485584157460. 4

Physical Education

Group Number :	19
Group Id :	485584900
Group Maximum Duration :	45
Group Minimum Duration :	45
Show Attended Group? :	No
Edit Attended Group? :	No
Break time :	0
Group Marks :	200
Is this Group for Examiner? :	No
Examiner permission :	Cant View
Show Progress Bar? :	No

Physical Education

Section Id :	4855841044
Section Number :	1
Section type :	Online
Mandatory or Optional :	Mandatory
Number of Questions :	50
Number of Questions to be attempted :	40
Section Marks :	200
Enable Mark as Answered Mark for Review and Clear Response :	Yes
Maximum Instruction Time :	0
Sub-Section Number :	1
Sub-Section Id :	4855842954
Question Shuffling Allowed :	Yes
Is Section Default? :	null

Question Number : 921 Question Id : 48558438831 Question Type : MCQ Option Shuffling : No Is Question Mandatory : No Calculator : None
Response Time : N.A Think Time : N.A Minimum Instruction Time : 0
Correct Marks : 5 Wrong Marks : 1

Question Key Details :

Key	Value
Comprehension	MCQ

Identify the odd one out from the below listed sports because of its special character.

1. Football
2. Basketball
3. Cricket
4. Handball

Options :

485584155321. 1
485584155322. 2
485584155323. 3
485584155324. 4

Question Number : 921 Question Id : 48558438831 Question Type : MCQ Option Shuffling : No Is Question Mandatory : No Calculator : None
Response Time : N.A Think Time : N.A Minimum Instruction Time : 0
Correct Marks : 5 Wrong Marks : 1

Question Key Details :

Key	Value
Comprehension	MCQ

नीचे दिये सूचीबद्ध खेलों में से किसी एक को उसके विशेष चरित्र के कारण पहचानें

1. फुटबॉल
2. बास्केटबॉल
3. क्रिकेट
4. हैंडबॉल

Options :

485584155321. 1
485584155322. 2
485584155323. 3
485584155324. 4

Question Number : 922 Question Id : 48558438832 Question Type : MCQ Option Shuffling : No Is Question Mandatory : No Calculator : None
Response Time : N.A Think Time : N.A Minimum Instruction Time : 0

Correct Marks : 5 Wrong Marks : 1

Question Key Details :

Key	Value
Comprehension	MCQ

Identify the civilisation out of the following with regards to the development of Pan-Hellenic Festival.

1. Chinese
2. Roman
3. Greek
4. Indus

Options :

485584155325. 1
485584155326. 2
485584155327. 3
485584155328. 4

Question Number : 922 Question Id : 48558438832 Question Type : MCQ Option Shuffling : No Is Question Mandatory : No Calculator : None
Response Time : N.A Think Time : N.A Minimum Instruction Time : 0

Correct Marks : 5 Wrong Marks : 1

Question Key Details :

Key	Value
Comprehension	MCQ

सर्व यूनानी पर्व के विकास के संबंध में निम्नलिखित में से सभ्यता की पहचान कीजिए।

1. चीनी
2. रोमन
3. ग्रीक
4. सिंधु

Options :

485584155325. 1
485584155326. 2
485584155327. 3
485584155328. 4

Question Number : 923 Question Id : 48558438833 Question Type : MCQ Option Shuffling : No Is Question Mandatory : No Calculator : None
Response Time : N.A Think Time : N.A Minimum Instruction Time : 0

Correct Marks : 5 Wrong Marks : 1

Question Key Details :

Key	Value
Comprehension	MCQ

Identify the odd one out from the below listed sports because of its special characters?

1. Canoeing
2. Rowing
3. Equestrian
4. Kayaking

Options :

- 485584155329. 1
- 485584155330. 2
- 485584155331. 3
- 485584155332. 4

Question Number : 923 Question Id : 48558438833 Question Type : MCQ Option Shuffling : No Is Question Mandatory : No Calculator : None Response Time : N.A Think Time : N.A Minimum Instruction Time : 0

Correct Marks : 5 Wrong Marks : 1

Question Key Details :

Key	Value
Comprehension	MCQ

नीचे सूचीबद्ध खेल में से किसी एक को उसके विशेष चरित्र के कारण पहचानें

1. टोंगी से चलना (केनोइंग)
2. रोइंग
3. घुड़सवारी
4. कयाकिंग

Options :

- 485584155329. 1
- 485584155330. 2
- 485584155331. 3
- 485584155332. 4

Question Number : 924 Question Id : 48558438834 Question Type : MCQ Option Shuffling : No Is Question Mandatory : No Calculator : None Response Time : N.A Think Time : N.A Minimum Instruction Time : 0

Correct Marks : 5 Wrong Marks : 1

Question Key Details :

Key	Value
Comprehension	MCQ

Which amongst the following is not a correct characteristic of a circuit training?

1. Exercises are usually performed with medium resistance
2. Exercises are usually performed with medium weight
3. Frequency of repetitions vary as per the need of the programme
4. Frequency of repetitions remain same on each station to get better results

Options :

- 485584155333. 1
- 485584155334. 2
- 485584155335. 3
- 485584155336. 4

Question Number : 924 Question Id : 48558438834 Question Type : MCQ Option Shuffling : No Is Question Mandatory : No Calculator : None
Response Time : N.A Think Time : N.A Minimum Instruction Time : 0

Correct Marks : 5 Wrong Marks : 1

Question Key Details :

Key	Value
Comprehension	MCQ

निम्नलिखित में से कौन-सी सर्किट प्रशिक्षण की विशेषता नहीं है ?

1. व्यायाम आमतौर पर मध्यम प्रतिरोध के साथ किया जाता है।
2. व्यायाम आमतौर पर मध्यम वजन के साथ किया जाता है।
3. कार्यक्रम की आवश्यकता के अनुसार पुनरावृत्ति की आवृत्ति भिन्न होती हैं।
4. बेहतर परिणाम प्राप्त करने के लिए प्रत्येक स्टेशन पर दोहराव की आवृत्ति समान रहती हैं।

Options :

485584155333. 1

485584155334. 2

485584155335. 3

485584155336. 4

Question Number : 925 Question Id : 48558438835 Question Type : MCQ Option Shuffling : No Is Question Mandatory : No Calculator : None
Response Time : N.A Think Time : N.A Minimum Instruction Time : 0

Correct Marks : 5 Wrong Marks : 1

Question Key Details :

Key	Value
Comprehension	MCQ

Which of the following training method was designed by Anderson and Morgan?

1. Continuous
2. Circuit
3. Repetition
4. Fartlek

Options :

485584155337. 1

485584155338. 2

485584155339. 3

485584155340. 4

Question Number : 925 Question Id : 48558438835 Question Type : MCQ Option Shuffling : No Is Question Mandatory : No Calculator : None
Response Time : N.A Think Time : N.A Minimum Instruction Time : 0

Correct Marks : 5 Wrong Marks : 1

Question Key Details :

Key	Value
Comprehension	MCQ

निम्नलिखित में से कौन-सी प्रशिक्षण विधि एण्डरसन और मॉर्गन द्वारा बनाई गई ?

1. निरंतर
2. सर्किट
3. पुनरावृत्ति
4. फार्टलेक

Options :

485584155337. 1
485584155338. 2
485584155339. 3
485584155340. 4

Question Number : 926 Question Id : 48558438836 Question Type : MCQ Option Shuffling : No Is Question Mandatory : No Calculator : None Response Time : N.A Think Time : N.A Minimum Instruction Time : 0

Correct Marks : 5 Wrong Marks : 1

Question Key Details :

Key	Value
Comprehension	MCQ

Identify the odd outcome with specific reference to weight training.

1. Develops strength
2. Improves posture
3. Improves agility
4. Develops strength and endurance

Options :

485584155341. 1
485584155342. 2
485584155343. 3
485584155344. 4

Question Number : 926 Question Id : 48558438836 Question Type : MCQ Option Shuffling : No Is Question Mandatory : No Calculator : None Response Time : N.A Think Time : N.A Minimum Instruction Time : 0

Correct Marks : 5 Wrong Marks : 1

Question Key Details :

Key	Value
Comprehension	MCQ

भार प्रशिक्षण के संदर्भ में विषम परिणामों का पता लगाए

1. शक्ति विकास
2. मुद्रा में सुधार
3. चपलता में सुधार
4. शक्ति और सहनशीलता विकास

Options :

485584155341. 1
485584155342. 2
485584155343. 3
485584155344. 4

Question Number : 927 Question Id : 48558438837 Question Type : MCQ Option Shuffling : No Is Question Mandatory : No Calculator : None
Response Time : N.A Think Time : N.A Minimum Instruction Time : 0

Correct Marks : 5 Wrong Marks : 1

Question Key Details :

Key	Value
Comprehension	MCQ

In which type of training an athlete changes his speed at his own accord during the activity because of changes in terrain and feelings?

1. Interval Training
2. Continuous Training
3. Fartlek Training
4. Repetition Training

Options :

- 485584155345. 1
- 485584155346. 2
- 485584155347. 3
- 485584155348. 4

Question Number : 927 Question Id : 48558438837 Question Type : MCQ Option Shuffling : No Is Question Mandatory : No Calculator : None
Response Time : N.A Think Time : N.A Minimum Instruction Time : 0

Correct Marks : 5 Wrong Marks : 1

Question Key Details :

Key	Value
Comprehension	MCQ

किस प्रकार के प्रशिक्षण में एक एथलीट इलाके और उसकी स्थितियों में बदलाव के कारण गतिविधि के दौरान अपनी गति को अपने हिसाब से बदलता है ?

1. अंतराल प्रशिक्षण
2. निरंतर प्रशिक्षण
3. फार्टलेक प्रशिक्षण
4. पुनरावृत्ति प्रशिक्षण

Options :

- 485584155345. 1
- 485584155346. 2
- 485584155347. 3
- 485584155348. 4

Question Number : 928 Question Id : 48558438838 Question Type : MCQ Option Shuffling : No Is Question Mandatory : No Calculator : None
Response Time : N.A Think Time : N.A Minimum Instruction Time : 0

Correct Marks : 5 Wrong Marks : 1

Question Key Details :

Key	Value
Comprehension	MCQ

Which of the following is not an objective of Intramural?

1. All round development of children
2. Provide opportunities for choosing a career in sports
3. To help children to develop their personality
4. Provide first opportunity to a compete in a controlled environment

Options :

485584155349. 1
485584155350. 2
485584155351. 3
485584155352. 4

Question Number : 928 Question Id : 48558438838 Question Type : MCQ Option Shuffling : No Is Question Mandatory : No Calculator : None Response Time : N.A Think Time : N.A Minimum Instruction Time : 0 Correct Marks : 5 Wrong Marks : 1

Question Key Details :

Key	Value
Comprehension	MCQ

निम्नलिखित में से कौन-सा अंतःप्राचीर का उद्देश्य नहीं है ?

1. बच्चों का बहुमुखी विकास।
2. खेल से आजीविका चुनने के अवसर प्रदान करना।
3. व्यक्तित्व विकास में बच्चों की मदद करना।
4. नियंत्रित वातावरण में प्रतिस्पर्धा करने का पहला अवसर प्रदान करना।

Options :

485584155349. 1
485584155350. 2
485584155351. 3
485584155352. 4

Question Number : 929 Question Id : 48558438839 Question Type : MCQ Option Shuffling : No Is Question Mandatory : No Calculator : None Response Time : N.A Think Time : N.A Minimum Instruction Time : 0 Correct Marks : 5 Wrong Marks : 1

Question Key Details :

Key	Value
Comprehension	MCQ

Calculate and determine number of byes if 19 teams are participating in a knock-out tournament?

1. 12
2. 15
3. 13
4. 11

Options :

485584155353. 1
485584155354. 2
485584155355. 3
485584155356. 4

Question Number : 929 Question Id : 48558438839 Question Type : MCQ Option Shuffling : No Is Question Mandatory : No Calculator : None
Response Time : N.A Think Time : N.A Minimum Instruction Time : 0

Correct Marks : 5 Wrong Marks : 1

Question Key Details :

Key	Value
Comprehension	MCQ

यदि 19 टीमों नॉक आउट प्रतियोगिता में भाग लेती हैं तो बाई की संख्या कितनी होगी ?

1. 12

2. 15

3. 13

4. 11

Options :

485584155353. 1

485584155354. 2

485584155355. 3

485584155356. 4

Question Number : 930 Question Id : 48558438840 Question Type : MCQ Option Shuffling : No Is Question Mandatory : No Calculator : None
Response Time : N.A Think Time : N.A Minimum Instruction Time : 0

Correct Marks : 5 Wrong Marks : 1

Question Key Details :

Key	Value
Comprehension	MCQ

Seeding is decided on the basis of _____ which of the following reason ?

1. Random lottery system

2. Current performance

3. Last year's performance

4. Assumptions

Options :

485584155357. 1

485584155358. 2

485584155359. 3

485584155360. 4

Question Number : 930 Question Id : 48558438840 Question Type : MCQ Option Shuffling : No Is Question Mandatory : No Calculator : None
Response Time : N.A Think Time : N.A Minimum Instruction Time : 0

Correct Marks : 5 Wrong Marks : 1

Question Key Details :

Key	Value
Comprehension	MCQ

वरियता _____ इनमें से किस के आधार पर निर्धारित होती है।

1. अनिश्चित लॉटरी अव्यवस्था
2. वर्तमान प्रदर्शन
3. पूर्व वर्ष का प्रदर्शन
4. अंदाजे से (मान्यताओं)

Options :

485584155357. 1
485584155358. 2
485584155359. 3
485584155360. 4

Question Number : 931 Question Id : 48558438841 Question Type : MCQ Option Shuffling : No Is Question Mandatory : No Calculator : None Response Time : N.A Think Time : N.A Minimum Instruction Time : 0

Correct Marks : 5 Wrong Marks : 1

Question Key Details :

Key	Value
Comprehension	MCQ

Which of the following formulae can be used to determine the number of matches in a single league tournament if even number of teams are participating?

1. $\frac{n(n-1)}{2}$
2. $\frac{n+1}{2}$
3. $\frac{n(n+1)}{2}$
4. $\frac{n-1}{2}$

Options :

485584155361. 1
485584155362. 2
485584155363. 3
485584155364. 4

Question Number : 931 Question Id : 48558438841 Question Type : MCQ Option Shuffling : No Is Question Mandatory : No Calculator : None Response Time : N.A Think Time : N.A Minimum Instruction Time : 0

Correct Marks : 5 Wrong Marks : 1

Question Key Details :

Key	Value
Comprehension	MCQ

नीचे दिए गए फॉर्मूलों में से किस एक का उपयोग एकल लीग टूर्नामेंट में मैचों की संख्या निर्धारित करने के लिए किया जा सकता है, यदि टीमों की संख्या सम संख्या में भाग ले रही हो ?

1. $\frac{n(n-1)}{2}$

2. $\frac{n+1}{2}$

3. $\frac{n(n+1)}{2}$

4. $\frac{n-1}{2}$

Options :

485584155361. 1

485584155362. 2

485584155363. 3

485584155364. 4

Question Number : 932 Question Id : 48558438842 Question Type : MCQ Option Shuffling : No Is Question Mandatory : No Calculator : None Response Time : N.A Think Time : N.A Minimum Instruction Time : 0

Correct Marks : 5 Wrong Marks : 1

Question Key Details :

Key	Value
Comprehension	MCQ

Children between the age group of 5 to 12 should sleep between _____ to _____ hours per day to function at their best

1. 8 to 10

2. 10 to 11

3. 9 to 10

4. 10 to 12

Options :

485584155365. 1

485584155366. 2

485584155367. 3

485584155368. 4

Question Number : 932 Question Id : 48558438842 Question Type : MCQ Option Shuffling : No Is Question Mandatory : No Calculator : None Response Time : N.A Think Time : N.A Minimum Instruction Time : 0

Correct Marks : 5 Wrong Marks : 1

Question Key Details :

Key	Value
Comprehension	MCQ

5 से 12 वर्ष के आयु वर्ग के बच्चों को अपने सर्वोत्तम कार्य करने के लिए प्रतिदिन _____ से _____ घंटों की नींद लेनी चाहिए।

1. 8 से 10
2. 10 से 11
3. 9 से 10
4. 10 से 12

Options :

485584155365. 1
485584155366. 2
485584155367. 3
485584155368. 4

Question Number : 933 Question Id : 48558438843 Question Type : MCQ Option Shuffling : No Is Question Mandatory : No Calculator : None
Response Time : N.A Think Time : N.A Minimum Instruction Time : 0

Correct Marks : 5 Wrong Marks : 1

Question Key Details :

Key	Value
Comprehension	MCQ

Which of the following option is false with specific reference to alcohol.

1. Stimulant
2. Acidic in effect
3. Noxious in smell
4. Bitter in taste

Options :

485584155369. 1
485584155370. 2
485584155371. 3
485584155372. 4

Question Number : 933 Question Id : 48558438843 Question Type : MCQ Option Shuffling : No Is Question Mandatory : No Calculator : None
Response Time : N.A Think Time : N.A Minimum Instruction Time : 0

Correct Marks : 5 Wrong Marks : 1

Question Key Details :

Key	Value
Comprehension	MCQ

मादक (सुरा) के संदर्भ में निम्नलिखित में से कौन-सा विकल्प गलत है।

1. उत्तेजक पदार्थ
2. प्रभाव में अस्थायी
3. गंध में हानिकारक
4. स्वाद में कड़वा

Options :

485584155369. 1
485584155370. 2
485584155371. 3

485584155372. 4

Question Number : 934 Question Id : 48558438844 Question Type : MCQ Option Shuffling : No Is Question Mandatory : No Calculator : None
Response Time : N.A Think Time : N.A Minimum Instruction Time : 0
Correct Marks : 5 Wrong Marks : 1
Question Key Details :

Key	Value
Comprehension	MCQ

Alcohol appears in the blood stream within five minutes after ingestion and reaches peak concentration level in _____ to _____ minutes creating variety of dangerous effects.

1. 20 to 30
2. 10 to 20
3. 30 to 60
4. 60 to 90

Options :

485584155373. 1
485584155374. 2
485584155375. 3
485584155376. 4

Question Number : 934 Question Id : 48558438844 Question Type : MCQ Option Shuffling : No Is Question Mandatory : No Calculator : None
Response Time : N.A Think Time : N.A Minimum Instruction Time : 0
Correct Marks : 5 Wrong Marks : 1
Question Key Details :

Key	Value
Comprehension	MCQ

अंतर्ग्रहण के पाँच मिनट के भीतर शराब रक्त प्रवाह में दिखाई देती है और अधिकतम सांद्रता स्तर _____ से _____ मिनट तक पहुँच जाती है जिससे विभिन्न प्रकार के खतरनाक प्रभाव होते हैं।

1. 20 से 30
2. 10 से 20
3. 30 से 60
4. 60 से 90

Options :

485584155373. 1
485584155374. 2
485584155375. 3
485584155376. 4

Question Number : 935 Question Id : 48558438845 Question Type : MCQ Option Shuffling : No Is Question Mandatory : No Calculator : None
Response Time : N.A Think Time : N.A Minimum Instruction Time : 0
Correct Marks : 5 Wrong Marks : 1
Question Key Details :

Key	Value
Comprehension	MCQ

Which of the following is not an item of Barrow's Motor Ability Test?

1. Zig Zag Run
2. Medicine Ball Put
3. Standing Broad Jump
4. Partial Curl Up

Options :

485584155377. 1
485584155378. 2
485584155379. 3
485584155380. 4

Question Number : 935 Question Id : 48558438845 Question Type : MCQ Option Shuffling : No Is Question Mandatory : No Calculator : None Response Time : N.A Think Time : N.A Minimum Instruction Time : 0

Correct Marks : 5 Wrong Marks : 1

Question Key Details :

Key	Value
Comprehension	MCQ

निम्नलिखित में से कौन-सा मद बेरो गामक योग्यता परीक्षण में नहीं है

1. टेढ़ी मेढ़ी दौड़
2. मेडीसिन गेंद फेंकना
3. खड़े-खड़े लंबी कूद
4. आंशिक कर्ल अप

Options :

485584155377. 1
485584155378. 2
485584155379. 3
485584155380. 4

Question Number : 936 Question Id : 48558438846 Question Type : MCQ Option Shuffling : No Is Question Mandatory : No Calculator : None Response Time : N.A Think Time : N.A Minimum Instruction Time : 0

Correct Marks : 5 Wrong Marks : 1

Question Key Details :

Key	Value
Comprehension	MCQ

The correct formula to compute Fitness Index is:

1.
$$\frac{\text{Duration of Exercise (in Sec.)} \times 100}{2 \times \text{pulse count from } 1\frac{1}{2} \text{ minute to 2 minutes after exercise}}$$
2.
$$\frac{\text{Duration of Exercise (in Sec.)} \times 100}{2 \times 3 \text{ pulse after test}}$$
3.
$$\frac{\text{Duration of Exercise (in Sec.)} \times 100}{5.5 \times \text{pulse count from 1 to } \frac{1}{2} \text{ minute after exercise}}$$
4.
$$\frac{\text{Duration of Exercise (in Sec.)} \times 100}{2.5 \times \text{pulse count from 1 to } 1\frac{1}{2} \text{ seconds after exercise}}$$

Options :

485584155381. 1
485584155382. 2
485584155383. 3
485584155384. 4

Question Number : 936 Question Id : 48558438846 Question Type : MCQ Option Shuffling : No Is Question Mandatory : No Calculator : None
Response Time : N.A Think Time : N.A Minimum Instruction Time : 0
Correct Marks : 5 Wrong Marks : 1

Question Key Details :

Key	Value
Comprehension	MCQ

फिटनेस इंडेक्स की गणना करने का सही फॉर्मूला है :

1. व्यायाम की अवधि (सेकंड में) $\times 100$
$$\frac{\text{2} \times 1\frac{1}{2} \text{ से 2 मिनटों के व्यायाम के बाद पल्स काउंट}}$$
2. व्यायाम की अवधि (सेकंड में) $\times 100$
$$\frac{\text{2} \times 3 \text{ परीक्षण के बाद धड़कन}}$$
3. व्यायाम की अवधि (सेकंड में) $\times 100$
$$\frac{\text{5.5} \times 1 \text{ से } 1\frac{1}{2} \text{ मिनट के व्यायाम के बाद पल्स काउंट}}$$
4. व्यायाम की अवधि (सेकंड में) $\times 100$
$$\frac{\text{2.5} \times 1 \text{ से } 1\frac{1}{2} \text{ सेकण्ड के व्यायाम के बाद पल्स काउंट}}$$

Options :

485584155381. 1
485584155382. 2
485584155383. 3
485584155384. 4

Question Number : 937 Question Id : 48558438847 Question Type : MCQ Option Shuffling : No Is Question Mandatory : No Calculator : None
Response Time : N.A Think Time : N.A Minimum Instruction Time : 0
Correct Marks : 5 Wrong Marks : 1

Question Key Details :

Key	Value
Comprehension	MCQ

Sit and Reach Test measures _____ of an individual.

1. Endurance
2. Flexibility
3. Strength
4. Speed

Options :

485584155385. 1
485584155386. 2
485584155387. 3
485584155388. 4

Question Number : 937 Question Id : 48558438847 Question Type : MCQ Option Shuffling : No Is Question Mandatory : No Calculator : None
Response Time : N.A Think Time : N.A Minimum Instruction Time : 0

Correct Marks : 5 Wrong Marks : 1

Question Key Details :

Key	Value
Comprehension	MCQ

व्यक्ति की _____ सिट एण्ड रीच परीक्षण से मापते हैं।

1. सहनक्षमता
2. लचक
3. शक्ति
4. गति

Options :

485584155385. 1
485584155386. 2
485584155387. 3
485584155388. 4

Question Number : 938 Question Id : 48558438848 Question Type : MCQ Option Shuffling : No Is Question Mandatory : No Calculator : None
Response Time : N.A Think Time : N.A Minimum Instruction Time : 0

Correct Marks : 5 Wrong Marks : 1

Question Key Details :

Key	Value
Comprehension	MCQ

Newton's first Law of Motion is also known as

1. Law of Reaction
2. Law of Momentum
3. Law of Effect
4. Law of Inertia

Options :

485584155389. 1
485584155390. 2

485584155391.3
485584155392.4

Question Number : 938 Question Id : 48558438848 Question Type : MCQ Option Shuffling : No Is Question Mandatory : No Calculator : None
Response Time : N.A Think Time : N.A Minimum Instruction Time : 0
Correct Marks : 5 Wrong Marks : 1

Question Key Details :

Key	Value
Comprehension	MCQ

न्यूटन के गति के प्रथम नियम को इनमें से किस रूप में भी जाना जाता है।

1. प्रतिक्रिया का नियम
2. त्वरण का नियम
3. प्रभाव का नियम
4. जड़ता का नियम

Options :

485584155389.1
485584155390.2
485584155391.3
485584155392.4

Question Number : 939 Question Id : 48558438849 Question Type : MCQ Option Shuffling : No Is Question Mandatory : No Calculator : None
Response Time : N.A Think Time : N.A Minimum Instruction Time : 0

Correct Marks : 5 Wrong Marks : 1

Question Key Details :

Key	Value
Comprehension	MCQ

_____ is a movement that occurs in Sagittal Plane.

1. Abduction
2. Extension
3. Rotation
4. Adduction

Options :

485584155393.1
485584155394.2
485584155395.3
485584155396.4

Question Number : 939 Question Id : 48558438849 Question Type : MCQ Option Shuffling : No Is Question Mandatory : No Calculator : None
Response Time : N.A Think Time : N.A Minimum Instruction Time : 0

Correct Marks : 5 Wrong Marks : 1

Question Key Details :

Key	Value
Comprehension	MCQ

_____ गति सममितार्थी तल में होती है।

1. अपवर्तन
2. विस्तरण
3. घूर्णन
4. अभिवर्तन

Options :

485584155393. 1
485584155394. 2
485584155395. 3
485584155396. 4

Question Number : 940 Question Id : 48558438850 Question Type : MCQ Option Shuffling : No Is Question Mandatory : No Calculator : None Response Time : N.A Think Time : N.A Minimum Instruction Time : 0

Correct Marks : 5 Wrong Marks : 1

Question Key Details :

Key	Value
Comprehension	MCQ

Flexion of the _____ joint decreases the angle between the Tibia and Femur

1. Knee
2. Hip
3. Elbow
4. Ankle

Options :

485584155397. 1
485584155398. 2
485584155399. 3
485584155400. 4

Question Number : 940 Question Id : 48558438850 Question Type : MCQ Option Shuffling : No Is Question Mandatory : No Calculator : None Response Time : N.A Think Time : N.A Minimum Instruction Time : 0

Correct Marks : 5 Wrong Marks : 1

Question Key Details :

Key	Value
Comprehension	MCQ

_____ के जोड़ का मुड़ना टीबिया और फीमर के बीच के कोण को कम करता है।

1. घुटने
2. कूल्हे
3. फोहनी
4. टखने

Options :

485584155397. 1
485584155398. 2
485584155399. 3
485584155400. 4

Question Number : 941 Question Id : 48558438851 Question Type : MCQ Option Shuffling : No Is Question Mandatory : No Calculator : None
Response Time : N.A Think Time : N.A Minimum Instruction Time : 0
Correct Marks : 5 Wrong Marks : 1

Question Key Details :

Key	Value
Comprehension	MCQ

Identify the sport in which friction plays least important role amongst the below mentioned options:

1. Football
2. Car Racing
3. Skating
4. Hockey

Options :

485584155401. 1
485584155402. 2
485584155403. 3
485584155404. 4

Question Number : 941 Question Id : 48558438851 Question Type : MCQ Option Shuffling : No Is Question Mandatory : No Calculator : None
Response Time : N.A Think Time : N.A Minimum Instruction Time : 0

Correct Marks : 5 Wrong Marks : 1

Question Key Details :

Key	Value
Comprehension	MCQ

नीचे दिए विकल्पों में से उस खेल की पहचान करें जिनमें घर्षण सबसे कम महत्वपूर्ण भूमिका निभाता है।

1. फुटबॉल
2. कार रेसिंग
3. स्केटिंग
4. हॉकी

Options :

485584155401. 1
485584155402. 2
485584155403. 3
485584155404. 4

Question Number : 942 Question Id : 48558438852 Question Type : MCQ Option Shuffling : No Is Question Mandatory : No Calculator : None
Response Time : N.A Think Time : N.A Minimum Instruction Time : 0

Correct Marks : 5 Wrong Marks : 1

Question Key Details :

Key	Value
Comprehension	MCQ

_____ classified body types into three categories called somatotypes.

1. Allport
2. Jung
3. Sheldon
4. Skinner

Options :

485584155405. 1
485584155406. 2
485584155407. 3
485584155408. 4

Question Number : 942 Question Id : 48558438852 Question Type : MCQ Option Shuffling : No Is Question Mandatory : No Calculator : None Response Time : N.A Think Time : N.A Minimum Instruction Time : 0 Correct Marks : 5 Wrong Marks : 1 Question Key Details :

Key	Value
Comprehension	MCQ

_____ ने शरीर के प्रकारों को तीन श्रेणियों में वर्गीकृत किया जिन्हें सोमाटोटाइप कहा जाता है।

1. आलपोर्ट
2. जंग
3. शेल्डन
4. स्किनर

Options :

485584155405. 1
485584155406. 2
485584155407. 3
485584155408. 4

Question Number : 943 Question Id : 48558438853 Question Type : MCQ Option Shuffling : No Is Question Mandatory : No Calculator : None Response Time : N.A Think Time : N.A Minimum Instruction Time : 0 Correct Marks : 5 Wrong Marks : 1 Question Key Details :

Key	Value
Comprehension	MCQ

_____ are rounded and soft, are said to have tendency towards 'viscero-tonic' personality.

1. Endomorphs
2. Mesomorphs
3. Ectomorphs
4. Somatotoxic

Options :

485584155409. 1
485584155410. 2
485584155411. 3
485584155412. 4

Question Number : 943 Question Id : 48558438853 Question Type : MCQ Option Shuffling : No Is Question Mandatory : No Calculator : None
Response Time : N.A Think Time : N.A Minimum Instruction Time : 0

Correct Marks : 5 Wrong Marks : 1

Question Key Details :

Key	Value
Comprehension	MCQ

_____ गोल और कोमल होते हैं और विस्केटोनिक व्यक्तित्व की ओर प्रवृत्ति रखते हैं।

1. एण्डोमोर्फ
2. मीसोमोर्फ
3. एक्टोमोर्फ
4. सोमेटोटोनिक

Options :

- 485584155409. 1
- 485584155410. 2
- 485584155411. 3
- 485584155412. 4

Question Number : 944 Question Id : 48558438854 Question Type : MCQ Option Shuffling : No Is Question Mandatory : No Calculator : None
Response Time : N.A Think Time : N.A Minimum Instruction Time : 0

Correct Marks : 5 Wrong Marks : 1

Question Key Details :

Key	Value
Comprehension	MCQ

Which of the following does not fall in the category of personality trait?

1. Fatigue
2. Hesitant
3. Dominant
4. Apprehensive

Options :

- 485584155413. 1
- 485584155414. 2
- 485584155415. 3
- 485584155416. 4

Question Number : 944 Question Id : 48558438854 Question Type : MCQ Option Shuffling : No Is Question Mandatory : No Calculator : None
Response Time : N.A Think Time : N.A Minimum Instruction Time : 0

Correct Marks : 5 Wrong Marks : 1

Question Key Details :

Key	Value
Comprehension	MCQ

निम्नलिखित में से कौन-सा व्यक्तित्व लक्षण की श्रेणी में नहीं आता है ?

1. थकान
2. दुविधा में पड़ा हुआ
3. प्रभुत्व वाला
4. भयभीत

Options :

485584155413. 1
485584155414. 2
485584155415. 3
485584155416. 4

Question Number : 945 Question Id : 48558438855 Question Type : MCQ Option Shuffling : No Is Question Mandatory : No Calculator : None Response Time : N.A Think Time : N.A Minimum Instruction Time : 0 Correct Marks : 5 Wrong Marks : 1

Question Key Details :

Key	Value
Comprehension	MCQ

Allport in which year defined personality as "The dynamic organisation within the individual of those psychological systems that determines his unique adjustment to his environment." ?

1. 1961
2. 1951
3. 1941
4. 1959

Options :

485584155417. 1
485584155418. 2
485584155419. 3
485584155420. 4

Question Number : 945 Question Id : 48558438855 Question Type : MCQ Option Shuffling : No Is Question Mandatory : No Calculator : None Response Time : N.A Think Time : N.A Minimum Instruction Time : 0

Correct Marks : 5 Wrong Marks : 1

Question Key Details :

Key	Value
Comprehension	MCQ

आलपोर्ट ने किस वर्ष व्यक्तित्व को "उन मनोवैज्ञानिक प्रणालियों के व्यक्ति में गतिशील संगठन के रूप में परिभाषित किया है जो उसके पर्यावरण के लिए उसके अद्वितीय समायोजन को निर्धारित करता है।" ?

1. 1961
2. 1951
3. 1941
4. 1959

Options :

485584155417. 1
485584155418. 2
485584155419. 3

Question Number : 946 Question Id : 48558438856 Question Type : MCQ Option Shuffling : No Is Question Mandatory : No Calculator : None
Response Time : N.A Think Time : N.A Minimum Instruction Time : 0

Correct Marks : 5 Wrong Marks : 1

Question Key Details :

Key	Value
Comprehension	MCQ

Arrange the following stretching exercises in a sequential order from Head to Toe.

- A. Trapezius Stretch
- B. Gastrocnemius Stretch
- C. Latissimus Dorsi Stretch
- D. Lumbar Rotation Stretch
- E. Quadricep Stretch

Choose the correct answer from the options given below:

- 1. C, A, D, E, B
- 2. A, C, D, E, B
- 3. C, A, B, E, D
- 4. A, C, B, E, D

Options :

- 485584155421. 1
- 485584155422. 2
- 485584155423. 3
- 485584155424. 4

Question Number : 946 Question Id : 48558438856 Question Type : MCQ Option Shuffling : No Is Question Mandatory : No Calculator : None
Response Time : N.A Think Time : N.A Minimum Instruction Time : 0

Correct Marks : 5 Wrong Marks : 1

Question Key Details :

Key	Value
Comprehension	MCQ

निम्नलिखित खिंचाव वाले व्यायामों को सिर से पाँव तक एक क्रम में व्यवस्थित करें।

- A. ट्रेपेज़ियस खिंचाव
- B. गैस्ट्रोसीनिमीयस खिंचाव
- C. लैटिसिमस डोरसी खिंचाव
- D. लम्बर घुमाव खिंचाव
- E. क्वाड्रीसेप खिंचाव

नीचे दिए गए विकल्पों में से सही उत्तर का चयन कीजिए :

- 1. C, A, D, E, B
- 2. A, C, D, E, B
- 3. C, A, B, E, D
- 4. A, C, B, E, D

Options :

- 485584155421. 1
- 485584155422. 2
- 485584155423. 3
- 485584155424. 4

Question Number : 947 Question Id : 48558438857 Question Type : MCQ Option Shuffling : No Is Question Mandatory : No Calculator : None
Response Time : N.A Think Time : N.A Minimum Instruction Time : 0

Correct Marks : 5 Wrong Marks : 1

Question Key Details :

Key	Value
Comprehension	MCQ

Arrange the following teaching career options in a sequential order from lowest to highest.

- A. Asso. Prof.
- B. P.R.T.
- C. T.G.T.
- D. Asst. Prof.
- E. P.G.T.

Choose the correct answer from the options given below:

- 1. C, B, E, A, D
- 2. B, C, E, D, A
- 3. C, B, E, D, A
- 4. B, C, E, A, D

Options :

- 485584155425. 1
- 485584155426. 2
- 485584155427. 3
- 485584155428. 4

Question Number : 947 Question Id : 48558438857 Question Type : MCQ Option Shuffling : No Is Question Mandatory : No Calculator : None
Response Time : N.A Think Time : N.A Minimum Instruction Time : 0

Correct Marks : 5 Wrong Marks : 1

Question Key Details :

Key	Value
Comprehension	MCQ

शिक्षण के निम्नलिखित कैरियर विकल्पों को निम्नतम से उच्चतम क्रम में व्यवस्थित करें।

- A. सह-प्राध्यापक
- B. प्राथमिक अध्यापक
- C. प्रशिक्षित स्नातक शिक्षक
- D. सहायक प्रोफेसर
- E. प्रशिक्षित स्नातकोत्तर शिक्षक

नीचे दिए गए विकल्पों में से सही उत्तर का चयन कीजिए :

- 1. C, B, E, A, D
- 2. B, C, E, D, A
- 3. C, B, E, D, A
- 4. B, C, E, A, D

Options :

- 485584155425. 1
- 485584155426. 2
- 485584155427. 3
- 485584155428. 4

Question Number : 948 Question Id : 48558438858 Question Type : MCQ Option Shuffling : No Is Question Mandatory : No Calculator : None
Response Time : N.A Think Time : N.A Minimum Instruction Time : 0

Correct Marks : 5 Wrong Marks : 1

Question Key Details :

Key	Value
Comprehension	MCQ

Arrange the following Sports Federations as per their year of establishment in a sequential order from oldest to latest.

- A. Basketball Federation of India
- B. Indian Amateur Boxing Federation
- C. Athletic Federation of India
- D. Board of Control for Cricket in India
- E. Volleyball Federation of India

Choose the correct answer from the options given below:

- 1. D, C, B, A, E
- 2. D, B, C, A, E
- 3. B, D, C, A, E
- 4. B, D, E, A, C

Options :

- 485584155429. 1
- 485584155430. 2
- 485584155431. 3
- 485584155432. 4

Question Number : 948 Question Id : 48558438858 Question Type : MCQ Option Shuffling : No Is Question Mandatory : No Calculator : None
Response Time : N.A Think Time : N.A Minimum Instruction Time : 0

Correct Marks : 5 Wrong Marks : 1

Question Key Details :

Key	Value
Comprehension	MCQ

निम्नलिखित खेल संघों को उनकी स्थापना के वर्ष के अनुसार सबसे पुराने से नवीनतम के क्रम में व्यवस्थित करें।

- A. बास्केटबॉल फेडरेशन ऑफ इंडिया
- B. इंडियन एमेच्योर बॉक्सिंग फेडरेशन
- C. एथलेटिक फेडरेशन ऑफ इंडिया
- D. बोर्ड ऑफ कंट्रोल फॉर क्रिकेट इन इंडिया
- E. वॉलीबॉल फेडरेशन ऑफ इंडिया

नीचे दिए गए विकल्पों में से सही उत्तर का चयन कीजिए :

- 1. D, C, B, A, E
- 2. D, B, C, A, E
- 3. B, D, C, A, E
- 4. B, D, E, A, C

Options :

- 485584155429. 1
- 485584155430. 2
- 485584155431. 3
- 485584155432. 4

Question Number : 949 Question Id : 48558438859 Question Type : MCQ Option Shuffling : No Is Question Mandatory : No Calculator : None
Response Time : N.A Think Time : N.A Minimum Instruction Time : 0

Correct Marks : 5 Wrong Marks : 1

Question Key Details :

Key	Value
Comprehension	MCQ

Arrange the following communicable diseases as per their incubation period, in a sequential order from lowest to highest.

- A. Cholera
- B. Rubella
- C. Influenza
- D. Measles

Choose the correct answer from the options given below:

- 1. B, D, A, C
- 2. D, B, A, C
- 3. A, C, D, B
- 4. C, A, D, B

Options :

- 485584155433. 1
- 485584155434. 2
- 485584155435. 3
- 485584155436. 4

Question Number : 949 Question Id : 48558438859 Question Type : MCQ Option Shuffling : No Is Question Mandatory : No Calculator : None
Response Time : N.A Think Time : N.A Minimum Instruction Time : 0

Correct Marks : 5 Wrong Marks : 1

Question Key Details :

Key	Value
Comprehension	MCQ

निम्न संचारी रोगों को उनकी उष्मायन अवधि के अनुसार निम्नतम से उच्चतम क्रम में व्यवस्थित करें।

- A. हैजा
- B. रूबेला
- C. इन्फ्लूएंजा
- D. खसरा

नीचे दिए गए विकल्पों में से सही उत्तर का चयन कीजिए :

- 1. B, D, A, C
- 2. D, B, A, C
- 3. A, C, D, B
- 4. C, A, D, B

Options :

- 485584155433. 1
- 485584155434. 2
- 485584155435. 3
- 485584155436. 4

Question Number : 950 Question Id : 48558438860 Question Type : MCQ Option Shuffling : No Is Question Mandatory : No Calculator : None
Response Time : N.A Think Time : N.A Minimum Instruction Time : 0

Correct Marks : 5 Wrong Marks : 1

Question Key Details :

Key	Value
Comprehension	MCQ

Arrange the following scorings of 30 sec Chair Stand Test in a sequential order from highest to lowest.

- A. 12 Half stands
- B. 6 Full stands
- C. 6 Full stands and 1 Half stand (when time is over)
- D. 4 Full stands and 4 Half stands

Choose the correct answer from the options given below:

- 1. A, D, C, B
- 2. A, B, C, D
- 3. A, C, B, D
- 4. C, B, D, A

Options :

- 485584155437. 1
- 485584155438. 2
- 485584155439. 3
- 485584155440. 4

Question Number : 950 Question Id : 48558438860 Question Type : MCQ Option Shuffling : No Is Question Mandatory : No Calculator : None Response Time : N.A Think Time : N.A Minimum Instruction Time : 0

Correct Marks : 5 Wrong Marks : 1

Question Key Details :

Key	Value
Comprehension	MCQ

30 सेकंड चेर स्टैंड टेस्ट के निम्नलिखित स्कोरिंग को उच्चतम से निम्नतम क्रम में व्यवस्थित करें

- A. 12 हाफ स्टेण्डस
- B. 6 फुल स्टेण्डस
- C. 6 फुल स्टेण्डस और 1 हाफ स्टेण्डस (जब समय समाप्त हो जाता है)
- D. 4 फुल स्टेण्डस और 4 हाफ स्टेण्डस

नीचे दिए गए विकल्पों में से सही उत्तर का चयन कीजिए :

- 1. A, D, C, B
- 2. A, B, C, D
- 3. A, C, B, D
- 4. C, B, D, A

Options :

- 485584155437. 1
- 485584155438. 2
- 485584155439. 3
- 485584155440. 4

Question Number : 951 Question Id : 48558438861 Question Type : MCQ Option Shuffling : No Is Question Mandatory : No Calculator : None Response Time : N.A Think Time : N.A Minimum Instruction Time : 0

Correct Marks : 5 Wrong Marks : 1

Question Key Details :

Key	Value
Comprehension	MCQ

How many byes will be given in upper half and lower half if there are 19 teams participating in single knock out tournament.

- A. 6 byes in upper half
- B. 8 byes in lower half
- C. 7 byes in upper half
- D. 8 byes in lower half
- E. 7 byes in lower half

Choose the correct answer from the options given below:

- 1. A and B only
- 2. B and C only
- 3. A and E only
- 4. A and D only

Options :

- 485584155441. 1
- 485584155442. 2
- 485584155443. 3
- 485584155444. 4

Question Number : 951 Question Id : 48558438861 Question Type : MCQ Option Shuffling : No Is Question Mandatory : No Calculator : None

Response Time : N.A Think Time : N.A Minimum Instruction Time : 0

Correct Marks : 5 Wrong Marks : 1

Question Key Details :

Key	Value
Comprehension	MCQ

यदि सिंगल नॉक आउट प्रतियोगिता में 19 टीमों भाग ले रही हैं तो ऊपरी अर्ध और निचले अर्ध में कितनी बाई दी जाएगी।

- A. 6 बाई ऊपरी अर्ध में।
- B. 8 बाई निचली अर्ध में।
- C. 7 बाई ऊपरी अर्ध में।
- D. 8 बाई निचली अर्ध में।
- E. 7 बाई निचली अर्ध में।

नीचे दिए गए विकल्पों में से सही उत्तर का चयन कीजिए :

- 1. केवल A और B
- 2. केवल B और C
- 3. केवल A और E
- 4. केवल A और D

Options :

- 485584155441. 1
- 485584155442. 2
- 485584155443. 3
- 485584155444. 4

Question Number : 952 Question Id : 48558438862 Question Type : MCQ Option Shuffling : No Is Question Mandatory : No Calculator : None

Response Time : N.A Think Time : N.A Minimum Instruction Time : 0

Correct Marks : 5 Wrong Marks : 1

Question Key Details :

Key	Value
Comprehension	MCQ

Which amongst the following test items measure strength endurance of a person?

- A. 600 M Run
- B. Partial Curl-Ups
- C. Push-Ups
- D. Standing Board Jump
- E. Shuttle Run

Choose the correct answer from the options given below:

- 1. B and D only
- 2. A and E only
- 3. B and C only
- 4. C and D only

Options :

- 485584155445. 1
- 485584155446. 2
- 485584155447. 3
- 485584155448. 4

Question Number : 952 Question Id : 48558438862 Question Type : MCQ Option Shuffling : No Is Question Mandatory : No Calculator : None Response Time : N.A Think Time : N.A Minimum Instruction Time : 0 Correct Marks : 5 Wrong Marks : 1

Question Key Details :

Key	Value
Comprehension	MCQ

निम्नलिखित में से कौन कौन-सा परीक्षण मद किसी व्यक्ति की शक्ति सहनशक्ति को मापता है।

- A. 600 मीटर दौड़
- B. आंशिक कर्ल अप्स
- C. पुश अप्स
- D. स्टेन्डिंग ब्रॉड जम्प
- E. शटल रन

नीचे दिए गए विकल्पों में से सही उत्तर का चयन कीजिए :

- 1. केवल B और D
- 2. केवल A और E
- 3. केवल B और C
- 4. केवल C और D

Options :

- 485584155445. 1
- 485584155446. 2
- 485584155447. 3
- 485584155448. 4

Question Number : 953 Question Id : 48558438863 Question Type : MCQ Option Shuffling : No Is Question Mandatory : No Calculator : None Response Time : N.A Think Time : N.A Minimum Instruction Time : 0 Correct Marks : 5 Wrong Marks : 1

Question Key Details :

Key	Value
Comprehension	MCQ

Which of the following statements are true with specific reference to the principles related to Law of Reciprocal Action Force?

- A. Counter force is equal to the applied force when a stable surface is used.
- B. Twisting movements are based on transfer of momentum from part to whole.
- C. Rate of rotation is increased as the radius of rotation is decreased.
- D. Counterforce is most effective, when it is perpendicular to the supporting surface.
- E. Less stable the surface is, lesser will be the counter force.

Choose the correct answer from the options given below:

- 1. A, B and C only
- 2. A, D and E only
- 3. B, C and D only
- 4. B, C and E only

Options :

- 485584155449. 1
- 485584155450. 2
- 485584155451. 3
- 485584155452. 4

Question Number : 953 Question Id : 48558438863 Question Type : MCQ Option Shuffling : No Is Question Mandatory : No Calculator : None Response Time : N.A Think Time : N.A Minimum Instruction Time : 0

Correct Marks : 5 Wrong Marks : 1

Question Key Details :

Key	Value
Comprehension	MCQ

पारस्परिक क्रिया बल के नियम से संबंधित सिद्धांतों के विशिष्ट संदर्भ में निम्नलिखित में से कौन-कौन से कथन सत्य हैं ?

- A. प्रति बल लागू बल के बराबर होता है जब एक स्थिर सतह का उपयोग किया जाता है।
- B. मरोड़ने वाली गति खण्ड से पूर्ण में संवेग के हस्तांतरण पर आधारित होती है।
- C. घूर्णन की विज्या कम होने पर घूर्णन की दर बढ़ जाती है।
- D. प्रति बल सबसे प्रभावी होता है, जब यह सहायक सतह के लंबवत होता है।
- E. सतह जितनी कम स्थिर होगी, प्रतिबल उतना ही कम होगा।

नीचे दिए गए विकल्पों में से सही उत्तर का चयन कीजिए :

- 1. केवल A, B और C
- 2. केवल A, D और E
- 3. केवल B, C और D
- 4. केवल B, C और E

Options :

- 485584155449. 1
- 485584155450. 2
- 485584155451. 3
- 485584155452. 4

Question Number : 954 Question Id : 48558438864 Question Type : MCQ Option Shuffling : No Is Question Mandatory : No Calculator : None Response Time : N.A Think Time : N.A Minimum Instruction Time : 0

Correct Marks : 5 Wrong Marks : 1

Question Key Details :

Key	Value
Comprehension	MCQ

Which of the below-mentioned statements are true?

- A. Guildford defined personality as an individual's unique pattern of traits.
- B. Jung defined personality as of stable pattern of behaviour.
- C. Sheldon offered a topology of personality based on three body types.
- D. Baron said personality is which permits a prediction of what a person will do in a given situation.
- E. Allport referred personality as the dynamic organisation within the person of those psychological systems that determine his unique adjustment to his environment.

Choose the correct answer from the options given below:

- 1. B and D only
- 2. A, B and D only
- 3. A, C and E only
- 4. A, B and C only

Options :

- 485584155453. 1
- 485584155454. 2
- 485584155455. 3
- 485584155456. 4

Question Number : 954 Question Id : 48558438864 Question Type : MCQ Option Shuffling : No Is Question Mandatory : No Calculator : None Response Time : N.A Think Time : N.A Minimum Instruction Time : 0

Correct Marks : 5 Wrong Marks : 1

Question Key Details :

Key	Value
Comprehension	MCQ

नीचे दिए गए कथनों में से कौन-सा कथन सत्य है ?

- A. गिल्डफोर्ड ने व्यक्तित्व को व्यक्ति के लक्षणों के अद्वितीय नमूने के रूप में परिभाषित किया है।
- B. जूंग ने व्यक्तित्व को व्यवहार के स्थिर स्वरूप के रूप में परिभाषित किया।
- C. शेल्डन ने शरीर के तीन प्रकारों के आधार पर व्यक्तित्व की सांस्थिति प्रस्तुत की।
- D. बैरन ने कहा कि व्यक्तित्व वह है जो इस बात की भविष्यवाणी की अनुमति देता है कि एक व्यक्ति किसी निश्चित स्थिति में क्या करेगा।
- E. ऑलपोर्ट ने व्यक्तित्व को गतिशील संगठन के रूप में संदर्भित किया है, जो उन मनोवैज्ञानिक प्रणालियों के व्यक्ति के रूप में है जो उसके पर्यावरण के लिए अद्वितीय समायोजन का निर्धारण करते हैं।

नीचे दिए गए विकल्पों में से सही उत्तर का चयन कीजिए :

- 1. केवल B और D
- 2. केवल A, B और D
- 3. केवल A, C और E
- 4. केवल A, B और C

Options :

- 485584155453. 1
- 485584155454. 2
- 485584155455. 3
- 485584155456. 4

Question Number : 955 Question Id : 48558438865 Question Type : MCQ Option Shuffling : No Is Question Mandatory : No Calculator : None Response Time : N.A Think Time : N.A Minimum Instruction Time : 0

Correct Marks : 5 Wrong Marks : 1

Question Key Details :

Key	Value
Comprehension	MCQ

Disability is understood as a condition that produces long term impairment that affects activities of daily living, but many times disability may be _____.

- A. Invisible
- B. Temporary
- C. Congenital
- D. Gender oriented
- E. Economical

Choose the correct answer from the options given below:

- 1. B, C and D only
- 2. A, B and C only
- 3. A and C only
- 4. B and D only

Options :

- 485584155457. 1
- 485584155458. 2
- 485584155459. 3
- 485584155460. 4

Question Number : 955 Question Id : 48558438865 Question Type : MCQ Option Shuffling : No Is Question Mandatory : No Calculator : None Response Time : N.A Think Time : N.A Minimum Instruction Time : 0

Correct Marks : 5 Wrong Marks : 1

Question Key Details :

Key	Value
Comprehension	MCQ

विकलांगता को एक ऐसी स्थिति के रूप में समझा जाता है जो दीर्घकालिक हानि पैदा करती है जो दैनिक जीवन की गतिविधियों को प्रभावित करती है, लेकिन कई बार विकलांगता _____ हो सकती है।

- A. अदृश्य
- B. अस्थायी
- C. जन्मजात
- D. लिंगान्मुख
- E. आर्थिक

नीचे दिए गए विकल्पों में से सही उत्तर का चयन कीजिए :

- 1. केवल B, C और D
- 2. केवल A, B और C
- 3. केवल A और C
- 4. केवल B और D

Options :

- 485584155457. 1
- 485584155458. 2
- 485584155459. 3
- 485584155460. 4

Question Number : 956 Question Id : 48558438866 Question Type : MCQ Option Shuffling : No Is Question Mandatory : No Calculator : None Response Time : N.A Think Time : N.A Minimum Instruction Time : 0

Correct Marks : 5 Wrong Marks : 1

Question Key Details :

Key	Value
Comprehension	MCQ

Match the year of establishment listed in List I with the Sports Federation listed in List II

LIST I		LIST II	
Year of Establishment		Federation	
A.	1951	I.	Kabaddi Federation of India
B.	1926	II.	Board of Control for Cricket in India
C.	1928	III.	Volleyball Federation of India
D.	1950	IV.	Table Tennis Federation of India

Choose the correct answer from the options given below:

1. A-III, B-IV, C-II, D-I
2. A-I, B-II, C-III, D-IV
3. A-II, B-III, C-IV, D-I
4. A-I, B-III, C-IV, D-II

Options :

485584155461. 1
485584155462. 2
485584155463. 3
485584155464. 4

Question Number : 956 Question Id : 48558438866 Question Type : MCQ Option Shuffling : No Is Question Mandatory : No Calculator : None
Response Time : N.A Think Time : N.A Minimum Instruction Time : 0
Correct Marks : 5 Wrong Marks : 1

Question Key Details :

Key	Value
Comprehension	MCQ

सूची I में दिए गए स्थापना वर्ष को का सूची II में दिए गए खेल संघों के साथ मिलान कीजिए

सूची I		सूची II	
स्थापना वर्ष		संघ	
A.	1951	I.	भारतीय कबड्डी संघ
B.	1926	II.	भारतीय क्रिकेट कंट्रोल बोर्ड
C.	1928	III.	भारतीय वॉलीबॉल संघ
D.	1950	IV.	भारतीय टेबल टेनिस संघ

निम्नलिखित विकल्पों में से सही उत्तर का चयन कीजिए :

1. A-III, B-IV, C-II, D-I
2. A-I, B-II, C-III, D-IV
3. A-II, B-III, C-IV, D-I
4. A-I, B-III, C-IV, D-II

Options :

485584155461. 1
485584155462. 2
485584155463. 3
485584155464. 4

Question Number : 957 Question Id : 48558438867 Question Type : MCQ Option Shuffling : No Is Question Mandatory : No Calculator : None
Response Time : N.A Think Time : N.A Minimum Instruction Time : 0

Correct Marks : 5 Wrong Marks : 1

Question Key Details :

Key	Value
Comprehension	MCQ

Match the number of bytes listed in List I with the formulae listed in List II

LIST I Statement		LIST II Formula	
A.	Number of Bytes in Upper Half	I.	$\frac{N+1}{2}$
B.	Number of Bytes in Lower Half	II.	$\frac{NB+1}{2}$
C.	Number of Teams in Upper Half	III.	$\frac{N-1}{2}$
D.	Number of Teams in Lower Half	IV.	$\frac{NB-1}{2}$

Note: Wherein N stands for total number of teams and NB stands for total number of bytes

Choose the correct answer from the options given below:

1. A-III, B-II, C-IV, D-I
2. A-II, B-I, C-III, D-IV
3. A-IV, B-II, C-I, D-III
4. A-I, B-IV, C-III, D-II

Options :

485584155465. 1
485584155466. 2
485584155467. 3
485584155468. 4

Question Number : 957 Question Id : 48558438867 Question Type : MCQ Option Shuffling : No Is Question Mandatory : No Calculator : None
Response Time : N.A Think Time : N.A Minimum Instruction Time : 0

Correct Marks : 5 Wrong Marks : 1

Question Key Details :

Key	Value
Comprehension	MCQ

सूची I में दी गई बाई की संख्या को सूची II में दिए गए सूत्र से मिलान कीजिए।

सूची I कथन		सूची II सूत्र	
A.	ऊपरी अर्ध में बाई की संख्या	I.	$\frac{N+1}{2}$
B.	निचले अर्ध में बाई की संख्या	II.	$\frac{NB+1}{2}$
C.	ऊपरी अर्ध में टीमों की संख्या	III.	$\frac{N-1}{2}$
D.	निचले अर्ध में टीमों की संख्या	IV.	$\frac{NB-1}{2}$

नोट : जब की N टीमों की संख्या को दर्शाता है एवं NB पूर्ण बाई की संख्या को दर्शाता है।

नीचे दिए गए विकल्पों में से सही उत्तर का चयन कीजिए :

1. A-III, B-II, C-IV, D-I
2. A-II, B-I, C-III, D-IV
3. A-IV, B-II, C-I, D-III
4. A-I, B-IV, C-III, D-II

Options :

485584155465. 1
485584155466. 2
485584155467. 3
485584155468. 4

Question Number : 958 Question Id : 48558438868 Question Type : MCQ Option Shuffling : No Is Question Mandatory : No Calculator : None
Response Time : N.A Think Time : N.A Minimum Instruction Time : 0

Correct Marks : 5 Wrong Marks : 1

Question Key Details :

Key	Value
Comprehension	MCQ

Match the terms listed in List I with the most suited statement listed in List II

LIST I Terms		LIST II Statement	
A.	Disease	I.	From country to country
B.	Communicable	II.	Occurs in a community
C.	Epidemic	III.	Infectious
D.	Pandemic	IV.	Without ease

Choose the correct answer from the options given below:

1. A-IV, B-III, C-I, D-II
2. A-I, B-II, C-III, D-IV
3. A-IV, B-III, C-II, D-I
4. A-II, B-IV, C-I, D-III

Options :

485584155469. 1
485584155470. 2
485584155471. 3
485584155472. 4

Question Number : 958 Question Id : 48558438868 Question Type : MCQ Option Shuffling : No Is Question Mandatory : No Calculator : None Response Time : N.A Think Time : N.A Minimum Instruction Time : 0

Correct Marks : 5 Wrong Marks : 1

Question Key Details :

Key	Value
Comprehension	MCQ

सूची I में दी गई शब्दावली को सूची II में दिए गए सबसे उपयुक्त कथन के साथ मिलान कीजिए

सूची I		सूची II	
शब्दावली		कथन	
A.	बीमारी	I.	एक देश से दूसरे देश में।
B.	संचारी	II.	एक समुदाय में होता है।
C.	महामारी	III.	संक्रामक
D.	सर्वव्यापी महामारी	IV.	असहजता

निम्नलिखित विकल्पों में से सही उत्तर का चयन कीजिए :

1. A-IV, B-III, C-I, D-II
2. A-I, B-II, C-III, D-IV
3. A-IV, B-III, C-II, D-I
4. A-II, B-IV, C-I, D-III

Options :

485584155469. 1
485584155470. 2
485584155471. 3
485584155472. 4

Question Number : 959 Question Id : 48558438869 Question Type : MCQ Option Shuffling : No Is Question Mandatory : No Calculator : None Response Time : N.A Think Time : N.A Minimum Instruction Time : 0

Correct Marks : 5 Wrong Marks : 1

Question Key Details :

Key	Value
Comprehension	MCQ

Match the tests/term listed in List I with the test items listed in List II

LIST I		LIST II	
Tests/Term		Test Items	
A.	Motor Fitness Test	I.	Chair Stand Test
B.	Rikli and Jones Test	II.	Harvard Step Test
C.	General Motor Ability Test	III.	500 meters Run/Walk
D.	Aerobic Fitness	IV.	Zig Zag Run

Choose the correct answer from the options given below:

1. A-III, B-I, C-IV, D-II
2. A-III, B-II, C-IV, D-I
3. A-II, B-III, C-I, D-IV
4. A-IV, B-I, C-III, D-II

Options :

485584155473. 1
485584155474. 2

485584155475. 3
485584155476. 4

Question Number : 959 Question Id : 48558438869 Question Type : MCQ Option Shuffling : No Is Question Mandatory : No Calculator : None
Response Time : N.A Think Time : N.A Minimum Instruction Time : 0
Correct Marks : 5 Wrong Marks : 1

Question Key Details :

Key	Value
Comprehension	MCQ

सूची I में दिए गए परीक्षणों /शब्दावली को सूची II में दिए गए परीक्षण मनों से मिलान कीजिए।

सूची I		सूची II	
परीक्षण/शब्दावली		परीक्षण मनु	
A.	गामक पुष्टि परीक्षण	I.	वेपर स्टेड टेस्ट
B.	रिकली एण्ड जोन्स परीक्षण	II.	हारवर्ड स्टेप टेस्ट
C.	सामान्य गामक योग्यता परीक्षण	III.	600 मीटर रन वॉक
D.	वायुजीवी पुष्टि (ऐरोबिक फिटनेस)	IV.	त्रिग जैग रन

निम्नलिखित विकल्पों में से सही उत्तर का चयन कीजिए :

1. A-III, B-I, C-IV, D-II
2. A-III, B-II, C-IV, D-I
3. A-II, B-III, C-I, D-IV
4. A-IV, B-I, C-III, D-II

Options :

485584155473. 1
485584155474. 2
485584155475. 3
485584155476. 4

Question Number : 960 Question Id : 48558438870 Question Type : MCQ Option Shuffling : No Is Question Mandatory : No Calculator : None
Response Time : N.A Think Time : N.A Minimum Instruction Time : 0

Correct Marks : 5 Wrong Marks : 1

Question Key Details :

Key	Value
Comprehension	MCQ

Match the sports listed in List I with the ways by which friction can be increased listed in List II

LIST I		LIST II	
Sport/Event		Ways to Increase Friction	
A.	Athletics (Track Events)	I.	Studs
B.	Gymnastics	II.	Grip Tapes
C.	Hockey	III.	Magnesium Powder
D.	Soccer	IV.	Shoes with spikes

Choose the correct answer from the options given below:

1. A-I, B-II, C-III, D-IV
2. A-IV, B-III, C-II, D-I
3. A-III, B-IV, C-I, D-II
4. A-II, B-I, C-IV, D-III

Options :

485584155477. 1
485584155478. 2
485584155479. 3
485584155480. 4

Question Number : 960 Question Id : 48558438870 Question Type : MCQ Option Shuffling : No Is Question Mandatory : No Calculator : None
Response Time : N.A Think Time : N.A Minimum Instruction Time : 0
Correct Marks : 5 Wrong Marks : 1

Question Key Details :

Key	Value
Comprehension	MCQ

सूची I में सूचीबद्ध खेलों का उन तरीकों से मिलान करें जिनके द्वारा सूची II में सूचीबद्ध घर्षण को बढ़ाया जा सकता है।

सूची I		सूची II	
खेल		घर्षण बढ़ाने के तरीके	
A.	एथलेटिक्स (ट्रैक इवेंट्स)	I.	स्टड
B.	जिम्नास्टिक्स	II.	पकड़ टेप
C.	हॉकी	III.	मैग्नीशियम पाउडर
D.	फुटबॉल	IV.	स्पाइक्स वाले जूते

निम्नलिखित विकल्पों में से सही उत्तर का चयन कीजिए :

1. A-I, B-II, C-III, D-IV
2. A-IV, B-III, C-II, D-I
3. A-III, B-IV, C-I, D-II
4. A-II, B-I, C-IV, D-III

Options :

485584155477. 1
485584155478. 2
485584155479. 3
485584155480. 4

Sub-Section Number :

2

Sub-Section Id :

4855842955

Question Shuffling Allowed :

No

Is Section Default? :

null

Question Number : 961 Question Id : 48558438871 Question Type : MCQ Option Shuffling : No Is Question Mandatory : No Calculator : None
Response Time : N.A Think Time : N.A Minimum Instruction Time : 0
Correct Marks : 5 Wrong Marks : 1

Question Key Details :

Key	Value
Comprehension	Compl

Read the passage carefully and answer the question strictly as per the content.

When Virender Sehwag turned up at the Vikas Puri Cricket Coaching Centre as a young lad, Coach A.N Sharma did not let him bat in the nets for six months. The idea was to test the boy's patience and find out if he was serious about taking up the sport. As the days went by, Sharma was convinced that Sehwag meant business.

"Dilli mein kehste hain uncha khiladi (you call someone special when he is one). What I realised after watching him bat was simple; he was cut out for big time cricket." Sharma told DNA on Monday. A couple of decades later, Sharma is a satisfied man. His prodigy amassed more than 8,000 runs in both forms of the game. "As far as I am concerned, I am more than satisfied with what he has done. Nobody has played like that," said Sharma. "Sehwag always had the ability and he always played the game like what you all have seen on television. I never altered his style of play, never made anybody follow that typical cricket manual. I prefer to see a player play his natural game. Yes, there were minor corrections that I made here and there. The rest was Sehwag and his natural ability," he added. Sharma gave an example of Sehwag's hunger for runs and his skill to score them quickly. "In Delhi, we play a lot of cricket in the summer because our winters are cold and foggy. We had a good side. To make it tough for us, the organisers would give us two matches a day. One at 6.30 am and the other at 2 pm. We had to finish the first match by noon, so I would tell Viru to finish the game fast and come to the next ground for our second game. He would do as instructed. Such was his hunger," said Sharma.

The coach is, however, unhappy with the BCCI for not giving his boy a proper farewell. "It is just like using him. He deserved better treatment and credit to sign off from the game," said an emotional Sharma.

A.N Sharma preferred to see a player playing his _____.

1. Technical Game
2. Tactical Game
3. Natural Game
4. Artificially crafted Game

Options :

- 485584155481. 1
- 485584155482. 2
- 485584155483. 3
- 485584155484. 4

Question Number : 961 Question Id : 48558438871 Question Type : MCQ Option Shuffling : No Is Question Mandatory : No Calculator : None

Response Time : N.A Think Time : N.A Minimum Instruction Time : 0

Correct Marks : 5 Wrong Marks : 1

Question Key Details :

Key	Value
Comprehension	Compl

अनुच्छेद को ध्यानपूर्वक पढ़ें और प्रश्नों के उत्तर दें।

जब वीरेंद्र सहवाग युवा बालक के रूप में विकासपुरी क्रिकेट कोचिंग सेंटर पहुँचे। कोच ए. एन. शर्मा ने उन्हें छह महीने तक नेट में बल्लेबाजी नहीं करने दी। विचार यह था कि लड़के के धैर्य की परीक्षा की जाए और यह पता लगाया जाए कि क्या वह खेल को अपनाने के लिए गंभीर है। जैसे-जैसे दिन बीतते गए, शर्मा को यकीन हो गया कि सहवाग काम का है।

दिल्ली में कहते हैं, ऊँचा खिलाड़ी (जब आप किसी को विशेष कहते हैं) मुझे उसकी बल्लेबाजी देखने के बाद जो एहसास हुआ वह सरल था, वह लम्बे समय तक क्रिकेट खेलने के लिए तैयार था। शर्मा ने सोमवार को डीएनए को बताया। कुछ दशकों बाद, शर्मा एक संतुष्ट व्यक्ति हैं। सहवाग ने खेल के दोनों प्रारूपों में 8,000 से अधिक रन बनाए। शर्मा ने कहा, "जहाँ तक मेरा सवाल है, उसने जो कुछ किया है, उससे मैं संतुष्ट हूँ। किसी ने भी ऐसा नहीं खेला है।" सहवाग में हमेशा काबिलियत थी और वह हमेशा वही खेल खेलते थे जो आप सभी ने टेलीविजन पर देखा होगा। मैंने उनके खेलने की शैली में कभी बदलाव नहीं किया, कभी किसी को उस विशिष्ट क्रिकेट पुस्तिका का पालन नहीं करने दिया। मैं एक खिलाड़ी को अपना स्वाभाविक खेल खेलते देखना पसंद करता हूँ। हाँ, कुछ मामूली सुधार थे जो मैंने जहाँ तहाँ किये। बाकी सहवाग और उनकी स्वाभाविक क्षमता थी। शर्मा ने सहवाग की रनों की भूख और उन्हें जल्दी से स्कोर करने के उनके कौशल का उदाहरण दिया। दिल्ली में, हम गर्मियों में बहुत क्रिकेट खेलते हैं, क्योंकि हमारी सर्दियाँ बहुत ठंडी और धुन्ध होती हैं। हमारे पास एक अच्छा पक्ष था। इसे हमारे लिए कठिन बनाने के लिए, आयोजक हमें एक दिन में दो मैच खेलने के लिए दिए। शर्मा ने कहा, एक सुबह 6:30 बजे और दूसरा दोपहर 2 बजे। हमें पहला मैच दोपहर 12 बजे तक खत्म करना था, इसलिए मैं वीरू से मैच को तेजी से खत्म करने और हमारे दूसरे मैच के लिए अगले मैदान पर आने के लिए कहता था। सहवाग निर्देश के अनुसार ऐसा ही करता था, ऐसी धी रनों के लिए सहवाग की भूख।

हालांकि, कोच अपने लड़के को उचित विदाई नहीं देने के लिए बीसीसीआई से नाखुश हैं। यह सहवाग का उपयोग करने जैसा है। भावुक होकर शर्मा ने कहा, वह बेहतर विदाई का हकदार था।

ए. एन. शर्मा किसी खिलाड़ी के अपना _____ खेलते हुए देखना पसंद करते थे।

1. तकनीक खेल।
2. सामरिक खेल।
3. स्वाभाविक खेल।
4. कृत्रिम रूप से तैयार किया गया खेल।

Options :

485584155481. 1
485584155482. 2
485584155483. 3
485584155484. 4

Question Number : 962 Question Id : 48558438872 Question Type : MCQ Option Shuffling : No Is Question Mandatory : No Calculator : None Response Time : N.A Think Time : N.A Minimum Instruction Time : 0

Correct Marks : 5 Wrong Marks : 1

Question Key Details :

Key	Value
Comprehension	Comp1

Read the passage carefully and answer the question strictly as per the content.

When Virender Sehwag turned up at the Vikas Puri Cricket Coaching Centre as a young lad, Coach A.N Sharma did not let him bat in the nets for six months. The idea was to test the boy's patience and find out if he was serious about taking up the sport. As the days went by, Sharma was convinced that Sehwag meant business.

"Dilli mein kehste hain uncha khiladi (you call someone special when he is one). What I realised after watching him bat was simple; he was cut out for big time cricket." Sharma told DNA on Monday. A couple of decades later, Sharma is a satisfied man. His prodigy amassed more than 8,000 runs in both forms of the game. "As far as I am concerned, I am more than satisfied with what he has done. Nobody has played like that," said Sharma. "Sehwag always had the ability and he always played the game like what you all have seen on television. I never altered his style of play, never made anybody follow that typical cricket manual. I prefer to see a player play his natural game. Yes, there were minor corrections that I made here and there. The rest was Sehwag and his natural ability," he added. Sharma gave an example of Sehwag's hunger for runs and his skill to score them quickly. "In Delhi, we play a lot of cricket in the summer because our winters are cold and foggy. We had a good side. To make it tough for us, the organisers would give us two matches a day. One at 6.30 am and the other at 2 pm. We had to finish the first match by noon, so I would tell Viru to finish the game fast and come to the next ground for our second game. He would do as instructed. Such was his hunger," said Sharma.

The coach is, however, unhappy with the BCCI for not giving his boy a proper farewell. "It is just like using him. He deserved better treatment and credit to sign off from the game," said an emotional Sharma.

Why coach seems to be unhappy with BCCI?

1. Because V. Sehwag was given lesser chances
2. Because V. Sehwag made lesser runs
3. Because V. Sehwag was undisciplined
4. Because V. Sehwag never got a proper farewell

Options :

- 485584155485. 1
- 485584155486. 2
- 485584155487. 3
- 485584155488. 4

Question Number : 962 Question Id : 48558438872 Question Type : MCQ Option Shuffling : No Is Question Mandatory : No Calculator : None Response Time : N.A Think Time : N.A Minimum Instruction Time : 0

Correct Marks : 5 Wrong Marks : 1

Question Key Details :

Key	Value
Comprehension	Comp1

अनुच्छेद को ध्यानपूर्वक पढ़ें और प्रश्नों के उत्तर दें।

जब वीरेंद्र सहवाग युवा बालक के रूप में विकासपुरी क्रिकेट कोचिंग सेंटर पहुँचे। कोच ए. एन. शर्मा ने उन्हें छह महीने तक नेट में बल्लेबाजी नहीं करने दी। विचार यह था कि लड़के के धैर्य की परीक्षा की जाए और यह पता लगाया जाए कि क्या वह खेल को अपनाने के लिए गंभीर है। जैसे-जैसे दिन बीतते गए, शर्मा को यकीन हो गया कि सहवाग काम का है।

दिल्ली में कहते हैं, ऊँचा खिलाड़ी (जब आप किसी को विशेष कहते हैं) मुझे उसकी बल्लेबाजी देखने के बाद जो एहसास हुआ वह सरल था, वह लम्बे समय तक क्रिकेट खेलने के लिए तैयार था। शर्मा ने सोमवार को डीएनए को बताया। कुछ दशकों बाद, शर्मा एक संतुष्ट व्यक्ति हैं। सहवाग ने खेल के दोनों प्रारूपों में 8,000 से अधिक रन बनाए। शर्मा ने कहा, "जहाँ तक मेरा सवाल है, उसने जो कुछ किया है, उससे मैं संतुष्ट हूँ। किसी ने भी ऐसा नहीं खेला है।" सहवाग में हमेशा काबिलियत थी और वह हमेशा वही खेल खेलते थे जो आप सभी ने टेलीविजन पर देखा होगा। मैंने उनके खेलने की शैली में कभी बदलाव नहीं किया, कभी किसी को उस विशिष्ट क्रिकेट पुस्तिका का पालन नहीं करने दिया। मैं एक खिलाड़ी को अपना स्वाभाविक खेल खेलते देखना पसंद करता हूँ। हाँ, कुछ मामूली सुधार थे जो मैंने जहाँ तहाँ किये। बाकी सहवाग और उनकी स्वाभाविक क्षमता थी। शर्मा ने सहवाग की रनों की भूख और उन्हें जल्दी से स्कोर करने के उनके कौशल का उदाहरण दिया। दिल्ली में, हम गर्मियों में बहुत क्रिकेट खेलते हैं, क्योंकि हमारी सर्दियाँ बहुत ठंडी और धुन्ध होती हैं। हमारे पास एक अच्छा पक्ष था। इसे हमारे लिए कठिन बनाने के लिए, आयोजक हमें एक दिन में दो मैच खेलने के लिए दिए। शर्मा ने कहा, एक सुबह 6:30 बजे और दूसरा दोपहर 1 बजे। हमें पहला मैच दोपहर 12 बजे तक खत्म करना था, इसलिए मैं वीरू से मैच को तेजी से खत्म करने और हमारे दूसरे मैच के लिए अगले मैदान पर आने के लिए कहता था। सहवाग निर्देश के अनुसार ऐसा ही करता था, ऐसी ही रनों के लिए सहवाग की भूख।

हालांकि, कोच अपने लड़के को उचित विदाई नहीं देने के लिए बीसीसीआई से नाखुश हैं। यह सहवाग का उपयोग करने जैसा है। भावुक होकर शर्मा ने कहा, वह बेहतर विदाई का हकदार था।

कोच बी. सी. सी. आई. से नाखुश क्यों लगते हैं ?

1. क्योंकि वी. सहवाग को बहुत कम अवसर मिले।
2. क्योंकि वी. सहवाग को बहुत कम रन बनाए।
3. क्योंकि वी. सहवाग अनुशासित नहीं थे।
4. क्योंकि वी. सहवाग को उचित तरीके से विदाई नहीं दी गई।

Options :

485584155485. 1
485584155486. 2
485584155487. 3
485584155488. 4

Question Number : 963 Question Id : 48558438873 Question Type : MCQ Option Shuffling : No Is Question Mandatory : No Calculator : None Response Time : N.A Think Time : N.A Minimum Instruction Time : 0 Correct Marks : 5 Wrong Marks : 1

Question Key Details :

Key	Value
Comprehension	Comp1

Read the passage carefully and answer the question strictly as per the content.

When Virender Sehwag turned up at the Vikas Puri Cricket Coaching Centre as a young lad, Coach A.N Sharma did not let him bat in the nets for six months. The idea was to test the boy's patience and find out if he was serious about taking up the sport. As the days went by, Sharma was convinced that Sehwag meant business.

"Dilli mein kehste hain uncha khiladi (you call someone special when he is one). What I realised after watching him bat was simple; he was cut out for big time cricket." Sharma told DNA on Monday. A couple of decades later, Sharma is a satisfied man. His prodigy amassed more than 8,000 runs in both forms of the game. "As far as I am concerned, I am more than satisfied with what he has done. Nobody has played like that," said Sharma. "Sehwag always had the ability and he always played the game like what you all have seen on television. I never altered his style of play, never made anybody follow that typical cricket manual. I prefer to see a player play his natural game. Yes, there were minor corrections that I made here and there. The rest was Sehwag and his natural ability," he added. Sharma gave an example of Sehwag's hunger for runs and his skill to score them quickly. "In Delhi, we play a lot of cricket in the summer because our winters are cold and foggy. We had a good side. To make it tough for us, the organisers would give us two matches a day. One at 6.30 am and the other at 2 pm. We had to finish the first match by noon, so I would tell Viru to finish the game fast and come to the next ground for our second game. He would do as instructed. Such was his hunger," said Sharma.

The coach is, however, unhappy with the BCCI for not giving his boy a proper farewell. "It is just like using him. He deserved better treatment and credit to sign off from the game," said an emotional Sharma.

A.N. Sharma did not let Virender Sehwag bat in the nets for six months to test his:

1. Anger in sport
2. Seriousness about the sport
3. Anxiety in sport
4. Pressure in sport

Options :

- 485584155489. 1
- 485584155490. 2
- 485584155491. 3
- 485584155492. 4

Question Number : 963 Question Id : 48558438873 Question Type : MCQ Option Shuffling : No Is Question Mandatory : No Calculator : None Response Time : N.A Think Time : N.A Minimum Instruction Time : 0

Correct Marks : 5 Wrong Marks : 1

Question Key Details :

Key	Value
Comprehension	Comp1

अनुच्छेद को ध्यानपूर्वक पढ़ें और प्रश्नों के उत्तर दें।

जब वीरेंद्र सहवाग युवा बालक के रूप में विकासपुरी क्रिकेट कोचिंग सेंटर पहुँचे। कोच ए. एन. शर्मा ने उन्हें छह महीने तक नेट में बल्लेबाजी नहीं करने दी। विचार यह था कि लड़के के धैर्य की परीक्षा की जाए और यह पता लगाया जाए कि क्या वह खेल को अपनाने के लिए गंभीर है। जैसे-जैसे दिन बीतते गए, शर्मा को यकीन हो गया कि सहवाग काम का है।

दिल्ली में कहते हैं, ऊँचा खिलाड़ी (जब आप किसी को विशेष कहते हैं) मुझे उसकी बल्लेबाजी देखने के बाद जो एहसास हुआ वह सरल था, वह लम्बे समय तक क्रिकेट खेलने के लिए तैयार था। शर्मा ने सोमवार को डीएनए को बताया। कुछ दशकों बाद, शर्मा एक संतुष्ट व्यक्ति हैं। सहवाग ने खेल के दोनों प्रारूपों में 8,000 से अधिक रन बनाए। शर्मा ने कहा, "जहाँ तक मेरा सवाल है, उसने जो कुछ किया है, उससे मैं संतुष्ट हूँ। किसी ने भी ऐसा नहीं खेला है।" सहवाग में हमेशा काबिलियत थी और वह हमेशा वही खेल खेलते थे जो आप सभी ने टेलीविजन पर देखा होगा। मैंने उनके खेलने की शैली में कभी बदलाव नहीं किया, कभी किसी को उस विशिष्ट क्रिकेट पुस्तिका का पालन नहीं करने दिया। मैं एक खिलाड़ी को अपना स्वाभाविक खेल खेलते देखना पसंद करता हूँ। हाँ, कुछ मामूली सुधार थे जो मैंने जहाँ तहाँ किये। बाकी सहवाग और उनकी स्वाभाविक क्षमता थी। शर्मा ने सहवाग की रनों की भूख और उन्हें जल्दी से स्कोर करने के उनके कौशल का उदाहरण दिया। दिल्ली में, हम गर्मियों में बहुत क्रिकेट खेलते हैं, क्योंकि हमारी सर्दियाँ बहुत ठंडी और धुन्ध होती हैं। हमारे पास एक अच्छा पक्ष था। इसे हमारे लिए कठिन बनाने के लिए, आयोजक हमें एक दिन में दो मैच खेलने के लिए दिए। शर्मा ने कहा, एक सुबह 6:30 बजे और दूसरा दोपहर 2 बजे। हमें पहला मैच दोपहर 12 बजे तक खत्म करना था, इसलिए मैं वीरू से मैच को तेजी से खत्म करने और हमारे दूसरे मैच के लिए अगले मैदान पर आने के लिए कहता था। सहवाग निर्देश के अनुसार ऐसा ही करता था, ऐसी धी रनों के लिए सहवाग की भूख।

हालांकि, कोच अपने लड़के को उचित विदाई नहीं देने के लिए बीसीसीआई से नाखुश हैं। यह सहवाग का उपयोग करने जैसा है। भावुक होकर शर्मा ने कहा, वह बेहतर विदाई का हकदार था।

ए. एन. शर्मा ने छह महीने तक सहवाग को नेट पर बैटिंग अभ्यास नहीं करने दिया। वह क्या जानना चाहते थे सहवाग के बारे में :

1. खेल में गुसा
2. खेल प्रति गंभीरता
3. खेल में चिंता
4. खेल में दबाव

Options :

485584155489. 1
485584155490. 2
485584155491. 3
485584155492. 4

Question Number : 964 Question Id : 48558438874 Question Type : MCQ Option Shuffling : No Is Question Mandatory : No Calculator : None Response Time : N.A Think Time : N.A Minimum Instruction Time : 0 Correct Marks : 5 Wrong Marks : 1

Question Key Details :

Key	Value
Comprehension	Comp1

Read the passage carefully and answer the question strictly as per the content.

When Virender Sehwag turned up at the Vikas Puri Cricket Coaching Centre as a young lad, Coach A.N Sharma did not let him bat in the nets for six months. The idea was to test the boy's patience and find out if he was serious about taking up the sport. As the days went by, Sharma was convinced that Sehwag meant business.

"Dilli mein kehste hain uncha khiladi (you call someone special when he is one). What I realised after watching him bat was simple; he was cut out for big time cricket." Sharma told DNA on Monday. A couple of decades later, Sharma is a satisfied man. His prodigy amassed more than 8,000 runs in both forms of the game. "As far as I am concerned, I am more than satisfied with what he has done. Nobody has played like that," said Sharma. "Sehwag always had the ability and he always played the game like what you all have seen on television. I never altered his style of play, never made anybody follow that typical cricket manual. I prefer to see a player play his natural game. Yes, there were minor corrections that I made here and there. The rest was Sehwag and his natural ability," he added. Sharma gave an example of Sehwag's hunger for runs and his skill to score them quickly. "In Delhi, we play a lot of cricket in the summer because our winters are cold and foggy. We had a good side. To make it tough for us, the organisers would give us two matches a day. One at 6.30 am and the other at 2 pm. We had to finish the first match by noon, so I would tell Viru to finish the game fast and come to the next ground for our second game. He would do as instructed. Such was his hunger," said Sharma.

The coach is, however, unhappy with the BCCI for not giving his boy a proper farewell. "It is just like using him. He deserved better treatment and credit to sign off from the game," said an emotional Sharma.

If Coach told Viru to finish the game by 12 noon, how many minutes will he take to finish the game?

1. 180 minutes
2. 260 minutes
3. 330 minutes
4. 420 minutes

Options :

- 485584155493. 1
- 485584155494. 2
- 485584155495. 3
- 485584155496. 4

Question Number : 964 Question Id : 48558438874 Question Type : MCQ Option Shuffling : No Is Question Mandatory : No Calculator : None Response Time : N.A Think Time : N.A Minimum Instruction Time : 0 Correct Marks : 5 Wrong Marks : 1

Question Key Details :

Key	Value
Comprehension	Comp1

अनुच्छेद को ध्यानपूर्वक पढ़ें और प्रश्नों के उत्तर दें।

जब वीरेंद्र सहवाग युवा बालक के रूप में विकासपुरी क्रिकेट कोचिंग सेंटर पहुँचे। कोच ए. एन. शर्मा ने उन्हें छह महीने तक नेट में बल्लेबाजी नहीं करने दी। विचार यह था कि लड़के के धैर्य की परीक्षा की जाए और यह पता लगाया जाए कि क्या वह खेल को अपनाने के लिए गंभीर है। जैसे-जैसे दिन बीतते गए, शर्मा को यकीन हो गया कि सहवाग काम का है।

दिल्ली में कहते हैं, ऊँचा खिलाड़ी (जब आप किसी को विशेष कहते हैं) मुझे उसकी बल्लेबाजी देखने के बाद जो एहसास हुआ वह सरल था, वह लम्बे समय तक क्रिकेट खेलने के लिए तैयार था। शर्मा ने सोमवार को डीएनए को बताया। कुछ दशकों बाद, शर्मा एक संतुष्ट व्यक्ति हैं। सहवाग ने खेल के दोनों प्रारूपों में 8,000 से अधिक रन बनाए। शर्मा ने कहा, "जहाँ तक मेरा सवाल है, उसने जो कुछ किया है, उससे मैं संतुष्ट हूँ। किसी ने भी ऐसा नहीं खेला है।" सहवाग में हमेशा काबिलियत थी और वह हमेशा वही खेल खेलते थे जो आप सभी ने टेलीविजन पर देखा होगा। मैंने उनके खेलने की शैली में कभी बदलाव नहीं किया, कभी किसी को उस विशिष्ट क्रिकेट पुस्तिका का पालन नहीं करने दिया। मैं एक खिलाड़ी को अपना स्वाभाविक खेल खेलते देखना पसंद करता हूँ। हाँ, कुछ मामूली सुधार थे जो मैंने जहाँ तहाँ किये। बाकी सहवाग और उनकी स्वाभाविक क्षमता थी। शर्मा ने सहवाग की रनों की भूख और उन्हें जल्दी से स्कोर करने के उनके कौशल का उदाहरण दिया। दिल्ली में, हम गर्मियों में बहुत क्रिकेट खेलते हैं, क्योंकि हमारी सर्दियाँ बहुत ठंडी और धुन्ध होती हैं। हमारे पास एक अच्छा पक्ष था। इसे हमारे लिए कठिन बनाने के लिए, आयोजक हमें एक दिन में दो मैच खेलने के लिए दिए। शर्मा ने कहा, एक सुबह 6:30 बजे और दूसरा दोपहर 2 बजे। हमें पहला मैच दोपहर 12 बजे तक खत्म करना था, इसलिए मैं वीरू से मैच को तेजी से खत्म करने और हमारे दूसरे मैच के लिए अगले मैदान पर आने के लिए कहता था। सहवाग निर्देश के अनुसार ऐसा ही करता था, ऐसी धी रनों के लिए सहवाग की भूख।

हालांकि, कोच अपने लड़के को उचित विदाई नहीं देने के लिए बीसीसीआई से नाखुश हैं। यह सहवाग का उपयोग करने जैसा है। भातुक होकर शर्मा ने कहा, वह बेहतर विदाई का हकदार था।

यदि कोच ने वीरू को दोपहर 12 बजे तक खेल समाप्त करने के लिए कहा, तो उसे खेल समाप्त करने में कितने मिनट लगेंगे ?

1. 180 मिनट
2. 260 मिनट
3. 330 मिनट
4. 420 मिनट

Options :

485584155493. 1
485584155494. 2
485584155495. 3
485584155496. 4

Question Number : 965 Question Id : 48558438875 Question Type : MCQ Option Shuffling : No Is Question Mandatory : No Calculator : None Response Time : N.A Think Time : N.A Minimum Instruction Time : 0

Correct Marks : 5 Wrong Marks : 1

Question Key Details :

Key	Value
Comprehension	Compl

Read the passage carefully and answer the question strictly as per the content.

When Virender Sehwag turned up at the Vikas Puri Cricket Coaching Centre as a young lad, Coach A.N Sharma did not let him bat in the nets for six months. The idea was to test the boy's patience and find out if he was serious about taking up the sport. As the days went by, Sharma was convinced that Sehwag meant business.

"Dilli mein kehste hain uncha khiladi (you call someone special when he is one). What I realised after watching him bat was simple; he was cut out for big time cricket." Sharma told DNA on Monday. A couple of decades later, Sharma is a satisfied man. His prodigy amassed more than 8,000 runs in both forms of the game. "As far as I am concerned, I am more than satisfied with what he has done. Nobody has played like that," said Sharma. "Sehwag always had the ability and he always played the game like what you all have seen on television. I never altered his style of play, never made anybody follow that typical cricket manual. I prefer to see a player play his natural game. Yes, there were minor corrections that I made here and there. The rest was Sehwag and his natural ability," he added. Sharma gave an example of Sehwag's hunger for runs and his skill to score them quickly. "In Delhi, we play a lot of cricket in the summer because our winters are cold and foggy. We had a good side. To make it tough for us, the organisers would give us two matches a day. One at 6.30 am and the other at 2 pm. We had to finish the first match by noon, so I would tell Viru to finish the game fast and come to the next ground for our second game. He would do as instructed. Such was his hunger," said Sharma.

The coach is, however, unhappy with the BCCI for not giving his boy a proper farewell. "It is just like using him. He deserved better treatment and credit to sign off from the game," said an emotional Sharma.

Coach never tried altering his _____.

1. psychology
2. style of play
3. batting order
4. life style

Options :

- 485584155497. 1
- 485584155498. 2
- 485584155499. 3
- 485584155500. 4

Question Number : 965 Question Id : 48558438875 Question Type : MCQ Option Shuffling : No Is Question Mandatory : No Calculator : None Response Time : N.A Think Time : N.A Minimum Instruction Time : 0

Correct Marks : 5 Wrong Marks : 1

Question Key Details :

Key	Value
Comprehension	Comp1

अनुच्छेद को ध्यानपूर्वक पढ़ें और प्रश्नों के उत्तर दें।

जब वीरेंद्र सहवाग युवा बालक के रूप में विकासपुरी क्रिकेट कोचिंग सेंटर पहुँचे। कोच ए. एन. शर्मा ने उन्हें छह महीने तक नेट में बल्लेबाजी नहीं करने दी। विचार यह था कि लड़के के धैर्य की परीक्षा की जाए और यह पता लगाया जाए कि क्या वह खेल को अपनाने के लिए गंभीर है। जैसे-जैसे दिन बीतते गए, शर्मा को यकीन हो गया कि सहवाग काम का है।

दिल्ली में कहते हैं, ऊँचा खिलाड़ी (जब आप किसी को विशेष कहते हैं) मुझे उसकी बल्लेबाजी देखने के बाद जो एहसास हुआ वह सरल था, वह लम्बे समय तक क्रिकेट खेलने के लिए तैयार था। शर्मा ने सोमवार को डीएनए को बताया। कुछ दशकों बाद, शर्मा एक संतुष्ट व्यक्ति हैं। सहवाग ने खेल के दोनों प्रारूपों में 8,000 से अधिक रन बनाए। शर्मा ने कहा, "जहाँ तक मेरा सवाल है, उसने जो कुछ किया है, उससे मैं संतुष्ट हूँ। किसी ने भी ऐसा नहीं खेला है।" सहवाग में हमेशा काबिलियत थी और वह हमेशा वही खेल खेलते थे जो आप सभी ने टेलीविजन पर देखा होगा। मैंने उनके खेलने की शैली में कभी बदलाव नहीं किया, कभी किसी को उस विशिष्ट क्रिकेट पुस्तिका का पालन नहीं करने दिया। मैं एक खिलाड़ी को अपना स्वाभाविक खेल खेलते देखना पसंद करता हूँ। हाँ, कुछ मामूली सुधार थे जो मैंने जहाँ तहाँ किये। बाकी सहवाग और उनकी स्वाभाविक क्षमता थी। शर्मा ने सहवाग की रनों की भूख और उन्हें जल्दी से स्कोर करने के उनके कौशल का उदाहरण दिया। दिल्ली में, हम गर्मियों में बहुत क्रिकेट खेलते हैं, क्योंकि हमारी सर्दियाँ बहुत ठंडी और धुन्ध होती हैं। हमारे पास एक अच्छा पक्ष था। इसे हमारे लिए कठिन बनाने के लिए, आयोजक हमें एक दिन में दो मैच खेलने के लिए दिए। शर्मा ने कहा, एक सुबह 6:30 बजे और दूसरा दोपहर 1 बजे। हमें पहला मैच दोपहर 12 बजे तक खत्म करना था, इसलिए मैं वीरू से मैच को तेजी से खत्म करने और हमारे दूसरे मैच के लिए अगले मैदान पर आने के लिए कहता था। सहवाग निर्देश के अनुसार ऐसा ही करता था, ऐसी धी रनों के लिए सहवाग की भूख।

हालांकि, कोच अपने लड़के को उचित विदाई नहीं देने के लिए बीसीसीआई से नाखुश हैं। यह सहवाग का उपयोग करने जैसा है। भावुक होकर शर्मा ने कहा, वह बेहतर विदाई का हकदार था।

कोच ने कभी उसके _____ बदलने की कोशिश नहीं की।

1. मनोविज्ञान
2. खेलने का तरीका
3. बल्लेबाजी का क्रम
4. जीवन शैली

Options :

485584155497. 1

485584155498. 2

485584155499. 3

485584155500. 4

Sub-Section Number :

3

Sub-Section Id :

4855842956

Question Shuffling Allowed :

No

Is Section Default? :

null

Question Number : 966 Question Id : 48558438876 Question Type : MCQ Option Shuffling : No Is Question Mandatory : No Calculator : None

Response Time : N.A Think Time : N.A Minimum Instruction Time : 0

Correct Marks : 5 Wrong Marks : 1

Question Key Details :

Key	Value
Comprehension	Comp2

Read the passage carefully and answer the question strictly as per the passage's content.

Varicocele may be defined as diffuse dilation of the pampiniform plexus (the venous drainage of the scrotum). Generally, the venous drainage of the scrotum begins with multiple scrotal veins that coalesce with the plexus. This drainage ascends along the cord structure and ultimately forms a single testicular vein, draining on the right into the vena cava and on the left into the left renal vein. Although the main symptom of admission is dilated veins observed in the scrotum, patients with especially high-grade varicocele suffer from chronic groin pain. This may limit the physical performance.

The etiology remains unclear. Most theories have as a common thread an increased venous backpressure with sub-sequent venous varicosity. These theories are based on insufficient venous valves anatomic angle of venous drainage, external compression of the drainage system and backflow of metabolites from left adrenal vein onto the subjacent testis. Although varicocele can appear at any pediatric age, the incidence peaks near mid-puberty and catches the incidence of adult population. Overall, varicocele are estimated to occur in 15% of the adolescent population. They are almost all left-sided and rarely bilateral. Right-sided varicocele has been reported with situs inversus, adding to the emphasis on anatomic etiology. Most adolescents who have varicocele are asymptomatic and discovered on routine examination. There may be some mild discomfort. Although the mechanism is unclear, there is general agreement that larger varicoceles are more likely to result in testicular injury than smaller ones, and that this injury appears to be a function of increasing time.

Most cases of childhood varicocele require no treatment, but because of the gross appearance of varicocele, parents need to be well counseled. Generally a larger scrotum than normal is observed during physical examination when the boy stands upright. Palpation of the scrotum is like feeling "a bag of worms". The mass of veins often disappear when the child lies down. Adolescents who have pain, large varicoceles, or loss of ipsilateral testicular volume over time should undergo surgical therapy. Prior surgical therapies focusing on mass ligation of the internal spermatic vessels have had good results, but a significant incidence of postoperative hydrocele is reported.

Adolescents who have loss of ipsilateral testicular volume over time should undergo -

1. Massage Therapy
2. Cryo Therapy
3. Hydro Therapy
4. Surgical Therapy

Options :

- 485584155501. 1
- 485584155502. 2
- 485584155503. 3
- 485584155504. 4

Question Number : 966 Question Id : 48558438876 Question Type : MCQ Option Shuffling : No Is Question Mandatory : No Calculator : None Response Time : N.A Think Time : N.A Minimum Instruction Time : 0 Correct Marks : 5 Wrong Marks : 1 Question Key Details :

Key	Value
Comprehension	Comp2

अनुच्छेद को ध्यानपूर्वक पढ़ें और प्रश्नों के उत्तर दें।

वैरिकोसिलि को पेम्पिनिफॉर्म प्लेक्सस (अंडकोश से शिरीय अपवहन) के विस्तृत फैलाव के रूप में परिभाषित किया जा सकता है। आमतौर पर अंडकोश के शिरीय अपवहन बहुल स्कॉर्टल नसों से शुरू होती है जो प्लेक्सस के साथ जुड़ते हैं। यह अपवहन कॉर्ड संरचना के साथ चढ़ती है और अंत में एक एकल वृषण शिरा बनाती है जो दाहिनी ओर वेना कावा में और बाईं ओर वृषण शिरामें अपवहन होती है। हालाँकि जाँच का प्रमुख लक्षण वृषण में फैली हुई नसों है, विशेष रूप से उच्च श्रेणी के वैरिकोसिलि वाले रोगी जीर्ण ग्रॉइन दर्द से पीड़ित होते हैं। यह शारीरिक प्रदर्शन को सीमित कर सकता है। इसका निदान अस्पष्ट है। अधिकांश सिद्धांत एक सामान्य सूत्र के रूप में उप-अनुक्रमिक शिरापरक वैरिकोसिलि के साथ एक बड़े हुए शिरापरक दबाव का सुझाव देते हैं। ये सिद्धांत शिरापरक निकासी के अपर्याप्त शिरापरक वाल्व शारीरिक कोण, निकासी प्रणाली के बाहरी संपीड़न और बाएं एंटीनल नस से मैटाबोलाइट्स के बैकफ्लो पर आधारित वृषण होते हैं। पक्षि वैरिकोसिलि ग्रॉइन बाल्यावस्था में कभी भी हो सकता है, लेकिन यह परिघटना मध्य-युवावस्था में अपने चरम पर पहुँचती है और फिर तयस्क आबादी की ओर अग्रसर होती है। कुल मिलाकर 15% किशोर आबादी में वैरिकोसिलि होने का अनुमान है। इनमें लगभग सभी बाएं तरफ है और विलक्षण रूप से द्विपक्षीय होता है। दाईं ओर होने वाली वैरिकोसिलि को साइटस इनवर्सस के साथ प्रेक्षित किया जाता है, जिससे शारीरिक इटियोलोजी का बलवर्धन होता है। अधिकांश किशोर जिन्हें वैरिकोसिलि है, उनमें इसके लक्षण स्पष्ट रूप से नहीं दिखते और यह प्रायः नियमित जाँच में उभर के आता है। इसमें कुछ हल्की असुविधा हो सकती है। यह हालाँकि अस्पष्ट है कि यह प्रक्रिया कैसे घटित होती है, लेकिन इस बात को लेकर आम सहमति है कि छोटे वैरिकोसिलि की तुलना में बड़े वैरिकोसिलि में वृषण संबंधी चोट की अधिक संभावना होती है और इस चोट के पीछे समय अवधि की वृद्धि एक प्रमुख कारण नज़र आता है।

बचपन में वैरिकोसिलि के अधिकांश मामलों में किसी उपचार की आवश्यकता नहीं होती है लेकिन वैरिकोसिलि की सकल उपस्थिति के कारण, माता-पिता को अच्छी तरह से परामर्श देने की आवश्यकता होती है। आमतौर पर शारीरिक परीक्षण के दौरान सामान्य से बड़ा स्क्राटम तब देखा जाता है, जब बालक सीधा खड़ा होता है। स्ट्रॉटम के परिस्पर्शन को "कीड़ों के धैले" को महसूस करने के रूप में वर्णित किया जा सकता है। बच्चे के लेटने पर नसों का द्रव्यमान अक्सर गायब हो जाता है। जिन किशोरों को समय के साथ दर्द, बड़े वैरिकोसिलि या इन्फ्लैमेटरी वृषण मात्रा का नुकसान होता है, उन्हें शल्य चिकित्सा करवानी चाहिए। पूर्व में आंतरिक शुक्राणु वाहिकाओं के बड़े पैमाने पर बंधाव पर ध्यान केंद्रित करने वाले शल्य उपचारों के अच्छे परिणाम मिले हैं, लेकिन साथ ही पोस्ट ऑपरेटिव हाइड्रोसिलि का उभरना भी देखा गया है।

जिन किशोरों में समय के साथ इन्फ्लैमेटरी वृषण आवतन का नुकसान होता है उन्हें इससे गुजरना चाहिए

1. मसाज धैरेपी
2. क्रायो धैरेपी
3. हाइड्रो धैरेपी
4. शल्य चिकित्सा

Options :

485584155501. 1
485584155502. 2
485584155503. 3
485584155504. 4

Question Number : 967 Question Id : 48558438877 Question Type : MCQ Option Shuffling : No Is Question Mandatory : No Calculator : None Response Time : N.A Think Time : N.A Minimum Instruction Time : 0

Correct Marks : 5 Wrong Marks : 1

Question Key Details :

Key	Value
Comprehension	Comp2

Read the passage carefully and answer the question strictly as per the passage's content.

Varicocele may be defined as diffuse dilation of the pampiniform plexus (the venous drainage of the scrotum). Generally, the venous drainage of the scrotum begins with multiple scrotal veins that coalesce with the plexus. This drainage ascends along the cord structure and ultimately forms a single testicular vein, draining on the right into the vena cava and on the left into the left renal vein. Although the main symptom of admission is dilated veins observed in the scrotum, patients with especially high-grade varicocele suffer from chronic groin pain. This may limit the physical performance.

The etiology remains unclear. Most theories have as a common thread an increased venous backpressure with sub-sequent venous varicosity. These theories are based on insufficient venous valves anatomic angle of venous drainage, external compression of the drainage system and backflow of metabolites from left adrenal vein onto the subjacent testis. Although varicocele can appear at any pediatric age, the incidence peaks near mid-puberty and catches the incidence of adult population. Overall, varicocele are estimated to occur in 15% of the adolescent population. They are almost all left-sided and rarely bilateral. Right-sided varicocele has been reported with situs inversus, adding to the emphasis on anatomic etiology. Most adolescents who have varicocele are asymptomatic and discovered on routine examination. There may be some mild discomfort. Although the mechanism is unclear, there is general agreement that larger varicoceles are more likely to result in testicular injury than smaller ones, and that this injury appears to be a function of increasing time.

Most cases of childhood varicocele require no treatment, but because of the gross appearance of varicocele, parents need to be well counseled. Generally a larger scrotum than normal is observed during physical examination when the boy stands upright. Palpation of the scrotum is like feeling "a bag of worms". The mass of veins often disappear when the child lies down. Adolescents who have pain, large varicoceles, or loss of ipsilateral testicular volume over time should undergo surgical therapy. Prior surgical therapies focusing on mass ligation of the internal spermatic vessels have had good results, but a significant incidence of postoperative hydrocele is reported.

The venous drainage of the scrotum ultimately forms -

1. A single testicular vein
2. A single testicular artery
3. A single anatomic angle
4. A single anatomic etiology

Options :

- 485584155505. 1
- 485584155506. 2
- 485584155507. 3
- 485584155508. 4

Question Number : 967 Question Id : 48558438877 Question Type : MCQ Option Shuffling : No Is Question Mandatory : No Calculator : None Response Time : N.A Think Time : N.A Minimum Instruction Time : 0

Correct Marks : 5 Wrong Marks : 1

Question Key Details :

Key	Value
Comprehension	Comp2

अनुच्छेद को ध्यानपूर्वक पढ़ें और प्रश्नों के उत्तर दें।

वैरिकोसिलि को पेम्पिनिफॉर्म प्लेक्सस (अंडकोश से शिरीय अपवहन) के विस्तृत फैलाव के रूप में परिभाषित किया जा सकता है। आमतौर पर अंडकोश के शिरीय अपवहन बहुल स्कॉर्टल नसों से शुरू होती है जो प्लेक्सस के साथ जुड़ते हैं। यह अपवहन कॉर्ड संरचना के साथ चढ़ती है और अंत में एक एकल वृषण शिरा बनाती है जो दाहिनी ओर वेना कावा में और बाईं ओर वृक्क शिरामें अपवहन होती है। हालाँकि जाँच का प्रमुख लक्षण वृषण में फैली हुई नसों है, विशेष रूप से उच्च श्रेणी के वैरिकोसिलि वाले रोगी जीर्ण ग्रॉइन दर्द से पीड़ित होते हैं। यह शारीरिक प्रदर्शन को सीमित कर सकता है। इसका निदान अस्पष्ट है। अधिकांश सिद्धांत एक सामान्य सूत्र के रूप में उप-अनुक्रमिक शिरापरक वैरिकोसिलि के साथ एक बड़े हुए शिरापरक दबाव का सुझाव देते हैं। ये सिद्धांत शिरापरक निकासी के अपर्याप्त शिरापरक वाल्व शारीरिक कोण, निकासी प्रणाली के बाहरी संपीड़न और बाएं एंटीनल नस से मैटाबोलाइट्स के बैकफ्लो पर आधारित वृषण होते हैं। यद्यपि वैरिकोसिलि ग्रॉइन बाल्यावस्था में कभी भी हो सकता है, लेकिन यह परिघटना मध्य-युवावस्था में अपने चरम पर पहुँचती है और फिर तयस्क आबादी की ओर अग्रसर होती है। कुल मिलाकर 15% किशोर आबादी में वैरिकोसिलि होने का अनुमान है। इनमें लगभग सभी बाएं तरफ है और विलक्षण रूप से द्विपक्षीय होता है। दाईं ओर होने वाली वैरिकोसिलि को साइटस इनवर्सस के साथ प्रेक्षित किया जाता है, जिससे शारीरिक इटियोलोजी का बलवर्धन होता है। अधिकांश किशोर जिन्हें वैरिकोसिलि है, उनमें इसके लक्षण स्पष्ट रूप से नहीं दिखते और यह प्रायः नियमित जाँच में उभर के आता है। इसमें कुछ हल्की असुविधा हो सकती है। यह हालाँकि अस्पष्ट है कि यह प्रक्रिया कैसे घटित होती है, लेकिन इस बात को लेकर आम सहमति है कि छोटे वैरिकोसिलि की तुलना में बड़े वैरिकोसिलि में वृषण संबंधी चोट की अधिक संभावना होती है और इस चोट के पीछे समय अवधि की वृद्धि एक प्रमुख कारण नज़र आता है।

बचपन में वैरिकोसिलि के अधिकांश मामलों में किसी उपचार की आवश्यकता नहीं होती है लेकिन वैरिकोसिलि की सकल उपस्थिति के कारण, माता-पिता को अच्छी तरह से परामर्श देने की आवश्यकता होती है। आमतौर पर शारीरिक परीक्षण के दौरान सामान्य से बड़ा स्क्राटम तब देखा जाता है, जब बालक सीधा खड़ा होता है। स्ट्रॉटम के परिस्पर्शन को "कीड़ों के थैले" को महसूस करने के रूप में वर्णित किया जा सकता है। बच्चे के लेटने पर नसों का द्रव्यमान अक्सर गायब हो जाता है। जिन किशोरों को समय के साथ दर्द, बड़े वैरिकोसिलि या इन्फ्लेमेटरी वृषण मात्रा का नुकसान होता है, उन्हें शल्य चिकित्सा करवानी चाहिए। पूर्व में आंतरिक शुक्राणु वाहिकाओं के बड़े पैमाने पर बंधाव पर ध्यान केंद्रित करने वाले शल्य उपचारों के अच्छे परिणाम मिले हैं, लेकिन साथ ही पोस्ट ऑपरेटिव हाइड्रोसिलि का उभरना भी देखा गया है।

अंडकोश से शिरीय अपवहन अंततः बनता है।

1. एकल वृषण शिरा
2. एकल वृषण धमनी
3. एकल शारीरिक कोण
4. एकल संरचनात्मक एटियालोजी

Options :

485584155505. 1

485584155506. 2

485584155507. 3

485584155508. 4

Question Number : 968 Question Id : 48558438878 Question Type : MCQ Option Shuffling : No Is Question Mandatory : No Calculator : None

Response Time : N.A Think Time : N.A Minimum Instruction Time : 0

Correct Marks : 5 Wrong Marks : 1

Question Key Details :

Key	Value
Comprehension	Comp2

Read the passage carefully and answer the question strictly as per the passage's content.

Varicocele may be defined as diffuse dilation of the pampiniform plexus (the venous drainage of the scrotum). Generally, the venous drainage of the scrotum begins with multiple scrotal veins that coalesce with the plexus. This drainage ascends along the cord structure and ultimately forms a single testicular vein, draining on the right into the vena cava and on the left into the left renal vein. Although the main symptom of admission is dilated veins observed in the scrotum, patients with especially high-grade varicocele suffer from chronic groin pain. This may limit the physical performance.

The etiology remains unclear. Most theories have as a common thread an increased venous backpressure with sub-sequent venous varicosity. These theories are based on insufficient venous valves anatomic angle of venous drainage, external compression of the drainage system and backflow of metabolites from left adrenal vein onto the subjacent testis. Although varicocele can appear at any pediatric age, the incidence peaks near mid-puberty and catches the incidence of adult population. Overall, varicocele are estimated to occur in 15% of the adolescent population. They are almost all left-sided and rarely bilateral. Right-sided varicocele has been reported with situs inversus, adding to the emphasis on anatomic etiology. Most adolescents who have varicocele are asymptomatic and discovered on routine examination. There may be some mild discomfort. Although the mechanism is unclear, there is general agreement that larger varicoceles are more likely to result in testicular injury than smaller ones, and that this injury appears to be a function of increasing time.

Most cases of childhood varicocele require no treatment, but because of the gross appearance of varicocele, parents need to be well counseled. Generally a larger scrotum than normal is observed during physical examination when the boy stands upright. Palpation of the scrotum is like feeling "a bag of worms". The mass of veins often disappear when the child lies down. Adolescents who have pain, large varicoceles, or loss of ipsilateral testicular volume over time should undergo surgical therapy. Prior surgical therapies focusing on mass ligation of the internal spermatic vessels have had good results, but a significant incidence of postoperative hydrocele is reported.

Varicocele patients of which grade suffer from chronic groin pain?

- 1. Middle Grade
- 2. Moderate Grade
- 3. Low Grade
- 4. High Grade

Options :

- 485584155509. 1
- 485584155510. 2
- 485584155511. 3
- 485584155512. 4

Question Number : 968 Question Id : 48558438878 Question Type : MCQ Option Shuffling : No Is Question Mandatory : No Calculator : None
Response Time : N.A Think Time : N.A Minimum Instruction Time : 0
Correct Marks : 5 Wrong Marks : 1

Question Key Details :

Key	Value
Comprehension	Comp2

अनुच्छेद को ध्यानपूर्वक पढ़ें और प्रश्नों के उत्तर दें।

वैरिकोसिलि को पेम्पिनिफॉर्म प्लेक्सस (अंडकोश से शिरीय अपवहन) के विस्तृत फैलाव के रूप में परिभाषित किया जा सकता है। आमतौर पर अंडकोश के शिरीय अपवहन बहुल स्कॉर्टल नसों से शुरू होती है जो प्लेक्सस के साथ जुड़ते हैं। यह अपवहन कॉर्ड संरचना के साथ चढ़ती है और अंत में एक एकल वृषण शिरा बनाती है जो दाहिनी ओर वेना कावा में और बाईं ओर वृषण शिरामें अपवहन होती है। हालाँकि जाँच का प्रमुख लक्षण वृषण में फैली हुई नसों है, विशेष रूप से उच्च श्रेणी के वैरिकोसिलि वाले रोगी जीर्ण ग्रॉइन दर्द से पीड़ित होते हैं। यह शारीरिक प्रदर्शन को सीमित कर सकता है। इसका निदान अस्पष्ट है। अधिकांश सिद्धांत एक सामान्य सूत्र के रूप में उप-अनुक्रमिक शिरापरक वैरिकोसिलि के साथ एक बड़े हुए शिरापरक दबाव का सुझाव देते हैं। ये सिद्धांत शिरापरक निकासी के अपर्याप्त शिरापरक वाल्व शारीरिक कोण, निकासी प्रणाली के बाहरी संपीड़न और बाएं एंटीनल नस से मैटाबोलाइट्स के बैकफ्लो पर आधारित वृषण होते हैं। यद्यपि वैरिकोसिलि ग्रॉइन बाल्यावस्था में कभी भी हो सकता है, लेकिन यह परिघटना मध्य-युवावस्था में अपने चरम पर पहुँचती है और फिर तयस्क आबादी की ओर अग्रसर होती है। कुल मिलाकर 15% किशोर आबादी में वैरिकोसिलि होने का अनुमान है। इनमें लगभग सभी बाएं तरफ है और विलक्षण रूप से द्विपक्षीय होता है। दाईं ओर होने वाली वैरिकोसिलि को साइटस इनवर्सस के साथ प्रेक्षित किया जाता है, जिससे शारीरिक इटियोलोजी का बलवर्धन होता है। अधिकांश किशोर जिन्हें वैरिकोसिलि है, उनमें इसके लक्षण स्पष्ट रूप से नहीं दिखते और यह प्रायः नियमित जाँच में उभर के आता है। इसमें कुछ हल्की असुविधा हो सकती है। यह हालाँकि अस्पष्ट है कि यह प्रक्रिया कैसे घटित होती है, लेकिन इस बात को लेकर आम सहमति है कि छोटे वैरिकोसिलि की तुलना में बड़े वैरिकोसिलि में वृषण संबंधी चोट की अधिक संभावना होती है और इस चोट के पीछे समय अवधि की वृद्धि एक प्रमुख कारण नज़र आता है।

बचपन में वैरिकोसिलि के अधिकांश मामलों में किसी उपचार की आवश्यकता नहीं होती है लेकिन वैरिकोसिलि की सकल उपस्थिति के कारण, माता-पिता को अच्छी तरह से परामर्श देने की आवश्यकता होती है। आमतौर पर शारीरिक परीक्षण के दौरान सामान्य से बड़ा स्क्राटम तब देखा जाता है, जब बालक सीधा खड़ा होता है। स्ट्रॉटम के परिस्पर्शन को "कीड़ों के थैले" को महसूस करने के रूप में वर्णित किया जा सकता है। बच्चे के लेटने पर नसों का द्रव्यमान अक्सर गायब हो जाता है। जिन किशोरों को समय के साथ दर्द, बड़े वैरिकोसिलि या इन्फ्लेमेटरी वृषण मात्रा का नुकसान होता है, उन्हें शल्य चिकित्सा करवानी चाहिए। पूर्व में आंतरिक शुक्राणु वाहिकाओं के बड़े पैमाने पर बंधाव पर ध्यान केंद्रित करने वाले शल्य उपचारों के अच्छे परिणाम मिले हैं, लेकिन साथ ही पोस्ट ऑपरेटिव हाइड्रोसिलि का उभरना भी देखा गया है।

वैरिकोसिलि के रोगी किस श्रेणी के पुराने (जीर्ण) दर्द से पीड़ित है।

1. मध्यम श्रेणी
2. औसतन श्रेणी
3. निम्न श्रेणी
4. उच्च श्रेणी

Options :

485584155509. 1
485584155510. 2
485584155511. 3
485584155512. 4

Question Number : 969 Question Id : 48558438879 Question Type : MCQ Option Shuffling : No Is Question Mandatory : No Calculator : None
Response Time : N.A Think Time : N.A Minimum Instruction Time : 0
Correct Marks : 5 Wrong Marks : 1

Question Key Details :

Key	Value
Comprehension	Comp2

Read the passage carefully and answer the question strictly as per the passage's content.

Varicocele may be defined as diffuse dilation of the pampiniform plexus (the venous drainage of the scrotum). Generally, the venous drainage of the scrotum begins with multiple scrotal veins that coalesce with the plexus. This drainage ascends along the cord structure and ultimately forms a single testicular vein, draining on the right into the vena cava and on the left into the left renal vein. Although the main symptom of admission is dilated veins observed in the scrotum, patients with especially high-grade varicocele suffer from chronic groin pain. This may limit the physical performance.

The etiology remains unclear. Most theories have as a common thread an increased venous backpressure with sub-sequent venous varicosity. These theories are based on insufficient venous valves anatomic angle of venous drainage, external compression of the drainage system and backflow of metabolites from left adrenal vein onto the subjacent testis. Although varicocele can appear at any pediatric age, the incidence peaks near mid-puberty and catches the incidence of adult population. Overall, varicocele are estimated to occur in 15% of the adolescent population. They are almost all left-sided and rarely bilateral. Right-sided varicocele has been reported with situs inversus, adding to the emphasis on anatomic etiology. Most adolescents who have varicocele are asymptomatic and discovered on routine examination. There may be some mild discomfort. Although the mechanism is unclear, there is general agreement that larger varicoceles are more likely to result in testicular injury than smaller ones, and that this injury appears to be a function of increasing time.

Most cases of childhood varicocele require no treatment, but because of the gross appearance of varicocele, parents need to be well counseled. Generally a larger scrotum than normal is observed during physical examination when the boy stands upright. Palpation of the scrotum is like feeling "a bag of worms". The mass of veins often disappear when the child lies down. Adolescents who have pain, large varicoceles, or loss of ipsilateral testicular volume over time should undergo surgical therapy. Prior surgical therapies focusing on mass ligation of the internal spermatic vessels have had good results, but a significant incidence of postoperative hydrocele is reported.

Why do parents need to be well counseled in the case of childhood varicocele?

1. Due to large size of varicocele
2. Due to age related dangers of varicocele
3. Due to gross appearance of varicocele
4. Due to prior surgical therapies

Options :

- 485584155513. 1
- 485584155514. 2
- 485584155515. 3
- 485584155516. 4

Question Number : 969 Question Id : 48558438879 Question Type : MCQ Option Shuffling : No Is Question Mandatory : No Calculator : None Response Time : N.A Think Time : N.A Minimum Instruction Time : 0

Correct Marks : 5 Wrong Marks : 1

Question Key Details :

Key	Value
Comprehension	Comp2

अनुच्छेद को ध्यानपूर्वक पढ़ें और प्रश्नों के उत्तर दें।

वैरिकोसिलि को पेम्पिनिफॉर्म प्लेक्सस (अंडकोश से शिरीय अपवहन) के विस्तृत फैलाव के रूप में परिभाषित किया जा सकता है। आमतौर पर अंडकोश के शिरीय अपवहन बहुल स्कॉर्टल नसों से शुरू होती है जो प्लेक्सस के साथ जुड़ते हैं। यह अपवहन कॉर्ड संरचना के साथ चढ़ती है और अंत में एक एकल वृषण शिरा बनाती है जो दाहिनी ओर वेना कावा में और बाईं ओर वृक्क शिरामें अपवहन होती है। हालाँकि जाँच का प्रमुख लक्षण वृषण में फैली हुई नसों है, विशेष रूप से उच्च श्रेणी के वैरिकोसिलि वाले रोगी जीर्ण ग्रॉइन दर्द से पीड़ित होते हैं। यह शारीरिक प्रदर्शन को सीमित कर सकता है। इसका निदान अस्पष्ट है। अधिकांश सिद्धांत एक सामान्य सूत्र के रूप में उप-अनुक्रमिक शिरापरक वैरिकोसिलि के साथ एक बड़े हुए शिरापरक दबाव का सुझाव देते हैं। ये सिद्धांत शिरापरक निकासी के अपर्याप्त शिरापरक वाल्व शारीरिक कोण, निकासी प्रणाली के बाहरी संपीड़न और बाएं एंटीनल नस से मैटाबोलाइट्स के बैकफ्लो पर आधारित वृषण होते हैं। यद्यपि वैरिकोसिलि ग्रॉइन बाल्यावस्था में कभी भी हो सकता है, लेकिन यह परिघटना मध्य-युवावस्था में अपने चरम पर पहुँचती है और फिर तयस्क आबादी की ओर अग्रसर होती है। कुल मिलाकर 15% किशोर आबादी में वैरिकोसिलि होने का अनुमान है। इनमें लगभग सभी बाएं तरफ है और विलक्षण रूप से द्विपक्षीय होता है। दाईं ओर होने वाली वैरिकोसिलि को साइटस इनवर्सस के साथ प्रेक्षित किया जाता है, जिससे शारीरिक इटियोलोजी का बलवर्धन होता है। अधिकांश किशोर जिन्हें वैरिकोसिलि है, उनमें इसके लक्षण स्पष्ट रूप से नहीं दिखते और यह प्रायः नियमित जाँच में उभर के आता है। इसमें कुछ हल्की असुविधा हो सकती है। यह हालाँकि अस्पष्ट है कि यह प्रक्रिया कैसे घटित होती है, लेकिन इस बात को लेकर आम सहमति है कि छोटे वैरिकोसिलि की तुलना में बड़े वैरिकोसिलि में वृषण संबंधी चोट की अधिक संभावना होती है और इस चोट के पीछे समय अवधि की वृद्धि एक प्रमुख कारण नज़र आता है।

बचपन में वैरिकोसिलि के अधिकांश मामलों में किसी उपचार की आवश्यकता नहीं होती है लेकिन वैरिकोसिलि की सकल उपस्थिति के कारण, माता-पिता को अच्छी तरह से परामर्श देने की आवश्यकता होती है। आमतौर पर शारीरिक परीक्षण के दौरान सामान्य से बड़ा स्क्राटम तब देखा जाता है, जब बालक सीधा खड़ा होता है। स्ट्रॉटम के परिस्पर्शन को "कीड़ों के धैले" को महसूस करने के रूप में वर्णित किया जा सकता है। बच्चे के लेटने पर नसों का द्रव्यमान अक्सर गायब हो जाता है। जिन किशोरों को समय के साथ दर्द, बड़े वैरिकोसिलि या इन्फ्लैमेटरी वृषण मात्रा का नुकसान होता है, उन्हें शल्य चिकित्सा करवानी चाहिए। पूर्व में आंतरिक शुक्राणु वाहिकाओं के बड़े पैमाने पर बंधाव पर ध्यान केंद्रित करने वाले शल्य उपचारों के अच्छे परिणाम मिले हैं, लेकिन साथ ही पॉस्ट ऑपरेटिव हाइड्रोसिलि का उभरना भी देखा गया है।

बचपन के वैरिकोसिलि के मामलों में माता-पिता को अच्छा परामर्श देने की आवश्यकता क्यों है।

1. वैरिकोसिलि के बड़े आकार के कारण
2. वैरिकोसिलि के उम्र से संबंधित खतरे के कारण
3. वैरिकोसिलि के स्थूल रूप (सकल उपस्थिति) के कारण
4. पूर्व सर्जिकल उपचारों के कारण

Options :

485584155513. 1

485584155514. 2

485584155515. 3

485584155516. 4

Question Number : 970 Question Id : 48558438880 Question Type : MCQ Option Shuffling : No Is Question Mandatory : No Calculator : None

Response Time : N.A Think Time : N.A Minimum Instruction Time : 0

Correct Marks : 5 Wrong Marks : 1

Question Key Details :

Key	Value
Comprehension	Comp2

Read the passage carefully and answer the question strictly as per the passage's content.

Varicocele may be defined as diffuse dilation of the pampiniform plexus (the venous drainage of the scrotum). Generally, the venous drainage of the scrotum begins with multiple scrotal veins that coalesce with the plexus. This drainage ascends along the cord structure and ultimately forms a single testicular vein, draining on the right into the vena cava and on the left into the left renal vein. Although the main symptom of admission is dilated veins observed in the scrotum, patients with especially high-grade varicocele suffer from chronic groin pain. This may limit the physical performance.

The etiology remains unclear. Most theories have as a common thread an increased venous backpressure with sub-sequent venous varicosity. These theories are based on insufficient venous valves anatomic angle of venous drainage, external compression of the drainage system and backflow of metabolites from left adrenal vein onto the subjacent testis. Although varicocele can appear at any pediatric age, the incidence peaks near mid-puberty and catches the incidence of adult population. Overall, varicocele are estimated to occur in 15% of the adolescent population. They are almost all left-sided and rarely bilateral. Right-sided varicocele has been reported with situs inversus, adding to the emphasis on anatomic etiology. Most adolescents who have varicocele are asymptomatic and discovered on routine examination. There may be some mild discomfort. Although the mechanism is unclear, there is general agreement that larger varicoceles are more likely to result in testicular injury than smaller ones, and that this injury appears to be a function of increasing time.

Most cases of childhood varicocele require no treatment, but because of the gross appearance of varicocele, parents need to be well counseled. Generally a larger scrotum than normal is observed during physical examination when the boy stands upright. Palpation of the scrotum is like feeling "a bag of worms". The mass of veins often disappear when the child lies down. Adolescents who have pain, large varicoceles, or loss of ipsilateral testicular volume over time should undergo surgical therapy. Prior surgical therapies focusing on mass ligation of the internal spermatic vessels have had good results, but a significant incidence of postoperative hydrocele is reported.

Which of the following Adolescent population is safe from varicoceles?

1. $\frac{340}{4}$

2. $\frac{40}{2}$

3. $\frac{40}{8}$

4. $\frac{141}{3}$

Options :

- 485584155517. 1
- 485584155518. 2
- 485584155519. 3
- 485584155520. 4

Question Number : 970 Question Id : 48558438880 Question Type : MCQ Option Shuffling : No Is Question Mandatory : No Calculator : None

Response Time : N.A Think Time : N.A Minimum Instruction Time : 0

Correct Marks : 5 Wrong Marks : 1

Question Key Details :

Key	Value
Comprehension	Comp2

अनुच्छेद को ध्यानपूर्वक पढ़ें और प्रश्नों के उत्तर दें।

वैरिकोसिलि को पेम्पिनिफॉर्म प्लेक्सस (अंडकोश से शिरीय अपवहन) के विस्तृत फैलाव के रूप में परिभाषित किया जा सकता है। आमतौर पर अंडकोश के शिरीय अपवहन बहुल स्कॉर्टल नसों से शुरू होती है जो प्लेक्सस के साथ जुड़ते हैं। यह अपवहन कॉर्ड संरचना के साथ बढ़ती है और अंत में एक एकल वृषण शिरा बनाती है जो दाहिनी ओर वेना कावा में और बाईं ओर वृक्क शिरामें अपवहन होती है। हालाँकि जाँच का प्रमुख लक्षण वृषण में फैली हुई नसों है, विशेष रूप से उच्च श्रेणी के वैरिकोसिलि वाले रोगी जीर्ण ग्रॉइन दर्द से पीड़ित होते हैं। यह शारीरिक प्रदर्शन को सीमित कर सकता है। इसका निदान अस्पष्ट है। अधिकांश सिद्धांत एक सामान्य सूत्र के रूप में उप-अनुक्रमिक शिरापरक वैरिकोसिलि के साथ एक बड़े हुए शिरापरक दबाव का सुझाव देते हैं। ये सिद्धांत शिरापरक निकासी के अपर्याप्त शिरापरक वाल्व शारीरिक कोण, निकासी प्रणाली के बाहरी संपीड़न और बाएं एंटीनल नस से मैटाबोलाइट्स के बैकफ्लो पर आधारित वृषण होते हैं। यद्यपि वैरिकोसिलि ग्रॉइन बाल्यावस्था में कभी भी हो सकता है, लेकिन यह परिघटना मध्य-युवावस्था में अपने चरम पर पहुँचती है और फिर तयस्क आबादी की ओर अग्रसर होती है। कुल मिलाकर 15% किशोर आबादी में वैरिकोसिलि होने का अनुमान है। इनमें लगभग सभी बाएं तरफ है और विलक्षण रूप से द्विपक्षीय होता है। दाईं ओर होने वाली वैरिकोसिलि को साइटस इनवर्सस के साथ प्रेक्षित किया जाता है, जिससे शारीरिक इटियोलोजी का बलवर्धन होता है। अधिकांश किशोर जिन्हें वैरिकोसिलि है, उनमें इसके लक्षण स्पष्ट रूप से नहीं दिखते और यह प्रायः नियमित जाँच में उभर के आता है। इसमें कुछ हल्की असुविधा हो सकती है। यह हालाँकि अस्पष्ट है कि यह प्रक्रिया कैसे घटित होती है, लेकिन इस बात को लेकर आम सहमति है कि छोटे वैरिकोसिलि की तुलना में बड़े वैरिकोसिलि में वृषण संबंधी चोट की अधिक संभावना होती है और इस चोट के पीछे समय अवधि की वृद्धि एक प्रमुख कारण नज़र आता है।

बचपन में वैरिकोसिलि के अधिकांश मामलों में किसी उपचार की आवश्यकता नहीं होती है लेकिन वैरिकोसिलि की सकल उपस्थिति के कारण, माता-पिता को अच्छी तरह से परामर्श देने की आवश्यकता होती है। आमतौर पर शारीरिक परीक्षण के दौरान सामान्य से बड़ा स्क्राटम तब देखा जाता है, जब बालक सीधा खड़ा होता है। स्ट्रॉटम के परिस्पर्शन को "कीड़ों के धैले" को महसूस करने के रूप में वर्णित किया जा सकता है। बच्चे के लेटने पर नसों का द्रव्यमान अक्सर गायब हो जाता है। जिन किशोरों को समय के साथ दर्द, बड़े वैरिकोसिलि या इन्स्पिलेटरल वृषण मात्रा का नुकसान होता है, उन्हें शल्य चिकित्सा करवानी चाहिए। पूर्व में आंतरिक शुक्राणु वाहिकाओं के बड़े पैमाने पर बंधाव पर ध्यान केंद्रित करने वाले शल्य उपचारों के अच्छे परिणाम मिले हैं, लेकिन साथ ही पॉस्ट ऑपरेटिव हाइड्रोसिलि का उभरना भी देखा गया है।

निम्नलिखित में से कौन-सी आबादी वैरिकोसिलि से सुरक्षित है।

1. $\frac{340}{4}$

2. $\frac{40}{2}$

3. $\frac{40}{8}$

4. $\frac{141}{3}$

Options :

485584155517. 1

485584155518. 2

485584155519. 3

485584155520. 4

Physics

Group Number :

20

Group Id :

485584901

Group Maximum Duration :

60

Group Minimum Duration :

60

Show Attended Group? :

No

Edit Attended Group? :

No

Break time : 0
Group Marks : 200
Is this Group for Examiner? : No
Examiner permission : Cant View
Show Progress Bar? : No

Physics

Section Id : 4855841045
Section Number : 1
Section type : Online
Mandatory or Optional : Mandatory
Number of Questions : 50
Number of Questions to be attempted : 40
Section Marks : 200
Enable Mark as Answered Mark for Review and Clear Response : Yes
Maximum Instruction Time : 0
Sub-Section Number : 1
Sub-Section Id : 4855842957
Question Shuffling Allowed : Yes
Is Section Default? : null

Question Number : 971 Question Id : 48558439466 Question Type : MCQ Option Shuffling : No Is Question Mandatory : No Calculator : None
Response Time : N.A Think Time : N.A Minimum Instruction Time : 0
Correct Marks : 5 Wrong Marks : 1

Question Key Details :

Key	Value
Comprehension	MCQ

Choose the correct statements from the following:

- A. The total charge in any isolated system remains constant.
- B. When some charge is transferred to a conductor, it stays at the same place without getting distributed over the entire surface.
- C. One Coulomb of negative charge is the total charge of 6.25×10^{18} electrons.
- D. Electric field is a scalar field.
- E. Permanent dipole means that the dipole moment \vec{p} exists irrespective of external electric field \vec{E} .

Choose the correct answer from the options given below:

- 1. B, C, D and E only
- 2. A, D and E only
- 3. B and D only
- 4. A, C and E only

Options :

485584157861. 1
 485584157862. 2
 485584157863. 3
 485584157864. 4

Question Number : 971 Question Id : 48558439466 Question Type : MCQ Option Shuffling : No Is Question Mandatory : No Calculator : None
Response Time : N.A Think Time : N.A Minimum Instruction Time : 0
Correct Marks : 5 Wrong Marks : 1

Question Key Details :

Key	Value
Comprehension	MCQ

निम्नलिखित में ही कथन का चयन कीजिए

- A. किसी विलगित तंत्र में कुल आवेश की संख्या स्थिर होती है।
- B. जब किसी चालक पर आवेश का स्थानांतरण किया जाता है तो वह बिना वितरण के सम्पूर्ण पृष्ठ पर उसी स्थान पर स्थित रहता है।
- C. एक ऋणात्मक कूलॉम आवेश 6.25×10^{18} इलेक्ट्रॉनों पर कुल आवेश के बराबर होता है।
- D. विद्युत क्षेत्र एक अदिश क्षेत्र है।
- E. स्थाई द्विध्रुव का अर्थ कि बिना बाह्य विद्युत क्षेत्र \vec{E} के द्विध्रुव आघूर्ण \vec{p} उपस्थित है।

नीचे दिए गए विकल्पों में से सही उत्तर का चयन कीजिए :

- 1. केवल B, C, D और E
- 2. केवल A, D और E
- 3. केवल B और D
- 4. केवल A, C और E

Options :

- 485584157861. 1
- 485584157862. 2
- 485584157863. 3
- 485584157864. 4

Question Number : 972 Question Id : 48558439467 Question Type : MCQ Option Shuffling : No Is Question Mandatory : No Calculator : None
Response Time : N.A Think Time : N.A Minimum Instruction Time : 0
Correct Marks : 5 Wrong Marks : 1

Question Key Details :

Key	Value
Comprehension	MCQ

Choose the correct alternative from the following:

- 1. Gauss law is true for any open surface.
- 2. Gauss law includes the sum of all charges enclosed by the surface for calculation of electric flux through the surface.
- 3. Gauss law can be used to calculate the magnetic field due to steady current.
- 4. Gauss law is not based on the inverse square dependence on distance contained in the Coloumb's law.

Options :

- 485584157865. 1
- 485584157866. 2
- 485584157867. 3
- 485584157868. 4

Question Number : 972 Question Id : 48558439467 Question Type : MCQ Option Shuffling : No Is Question Mandatory : No Calculator : None
Response Time : N.A Think Time : N.A Minimum Instruction Time : 0
Correct Marks : 5 Wrong Marks : 1

Question Key Details :

Key	Value
Comprehension	MCQ

निम्नलिखित में सही विकल्प का चयन कीजिए:

1. किसी भी खुले पृष्ठ के लिए गाउस का नियम सत्य है।
2. गाउस नियम में पृष्ठ द्वारा परिवद्ध सभी आवेशों का योग, पृष्ठ द्वारा विद्युत क्षेत्र में फ्लक्स की गणना के लिए निहित है।
3. गाउस के नियम को अपरिवर्ती धारा के कारण लगने वाले चुम्बकीय क्षेत्र की गणना के लिए प्रयुक्त किया जाता है।
4. गाउस का नियम कूलॉम के नियम की तरह दूरी के वर्ग के व्युत्क्रम पर निर्भर नहीं करता।

Options :

485584157865. 1
485584157866. 2
485584157867. 3
485584157868. 4

**Question Number : 973 Question Id : 48558439468 Question Type : MCQ Option Shuffling : No Is Question Mandatory : No Calculator : None
Response Time : N.A Think Time : N.A Minimum Instruction Time : 0**

Correct Marks : 5 Wrong Marks : 1

Question Key Details :

Key	Value
Comprehension	MCQ

Choose the correct answer from the following:

If three charged particles are collinear and are in equilibrium, then:

1. all the charged particles have equal charge.
2. all the charged particles have the same sign and the distances between two consecutive charged particles are same.
3. all the charged particles have the same sign
4. all the charged particles cannot have the same sign

Options :

485584157869. 1
485584157870. 2
485584157871. 3
485584157872. 4

**Question Number : 973 Question Id : 48558439468 Question Type : MCQ Option Shuffling : No Is Question Mandatory : No Calculator : None
Response Time : N.A Think Time : N.A Minimum Instruction Time : 0**

Correct Marks : 5 Wrong Marks : 1

Question Key Details :

Key	Value
Comprehension	MCQ

निम्नलिखित में सही उत्तर का चयन कीजिए:

यदि तीन आवेशित कण समरेखीय और साम्यावस्था में हों तो:

1. सभी आवेशित कणों पर समान आवेश है।
2. सभी आवेशित कणों पर समान आवेश (चिन्ह) और दो क्रमागत आवेशित कणों के बीच की दूरी समान होती है।
3. सभी आवेशित कणों पर समान आवेश (चिन्ह) होता है।
4. सभी आवेशित कणों पर समान आवेश (चिन्ह) नहीं हो सकता।

Options :

485584157869. 1

485584157870. 2

485584157871. 3

485584157872. 4

Question Number : 974 Question Id : 48558439469 Question Type : MCQ Option Shuffling : No Is Question Mandatory : No Calculator : None

Response Time : N.A Think Time : N.A Minimum Instruction Time : 0

Correct Marks : 5 Wrong Marks : 1

Question Key Details :

Key	Value
Comprehension	MCQ

An isolated sphere has a capacitance of 60 pF, what is the radius of the sphere?

1. 540 cm
2. 54 cm
3. 0.054 cm
4. 0.54 cm

Options :

485584157873. 1

485584157874. 2

485584157875. 3

485584157876. 4

Question Number : 974 Question Id : 48558439469 Question Type : MCQ Option Shuffling : No Is Question Mandatory : No Calculator : None

Response Time : N.A Think Time : N.A Minimum Instruction Time : 0

Correct Marks : 5 Wrong Marks : 1

Question Key Details :

Key	Value
Comprehension	MCQ

एक विलगित गोले की धारिता 60 pF है। इस गोले की त्रिज्या क्या है?

1. 540 cm
2. 54 cm
3. 0.054 cm
4. 0.54 cm

Options :

485584157873. 1

485584157874. 2

485584157875. 3

Question Number : 975 Question Id : 48558439470 Question Type : MCQ Option Shuffling : No Is Question Mandatory : No Calculator : None
 Response Time : N.A Think Time : N.A Minimum Instruction Time : 0
 Correct Marks : 5 Wrong Marks : 1
 Question Key Details :

Key	Value
Comprehension	MCQ

The electric field intensity due to an infinite thin plane sheet of surface charge density σ is:

1. $+\frac{\sigma}{\epsilon_0}$

2. $\frac{\sigma}{2\epsilon_0}$

3. $\frac{-\sigma}{\epsilon_0}$

4. $\frac{-2\sigma}{\epsilon_0}$

Options :

485584157877. 1
 485584157878. 2
 485584157879. 3
 485584157880. 4

Question Number : 975 Question Id : 48558439470 Question Type : MCQ Option Shuffling : No Is Question Mandatory : No Calculator : None
 Response Time : N.A Think Time : N.A Minimum Instruction Time : 0
 Correct Marks : 5 Wrong Marks : 1

Question Key Details :

Key	Value
Comprehension	MCQ

अनन्त रूप से पतली समतल पट्टी जिसका सतही आवेश घनत्व σ है, की विद्युत क्षेत्र में तीव्रता होगी:

1. $+\frac{\sigma}{\epsilon_0}$

2. $\frac{\sigma}{2\epsilon_0}$

3. $\frac{-\sigma}{\epsilon_0}$

4. $\frac{-2\sigma}{\epsilon_0}$

Options :

485584157877. 1
 485584157878. 2
 485584157879. 3
 485584157880. 4

Question Number : 976 Question Id : 48558439471 Question Type : MCQ Option Shuffling : No Is Question Mandatory : No Calculator : None
Response Time : N.A Think Time : N.A Minimum Instruction Time : 0
Correct Marks : 5 Wrong Marks : 1

Question Key Details :

Key	Value
Comprehension	MCQ

Three capacitors of capacitances $3 \mu\text{F}$, $6 \mu\text{F}$ and $12 \mu\text{F}$ are connected in series. Find potential difference across a $6 \mu\text{F}$ capacitor, if a battery of 7 V is connected across this combination:

1. 1 V
2. 2 V
3. 3 V
4. 4 V

Options :

485584157881. 1
485584157882. 2
485584157883. 3
485584157884. 4

Question Number : 976 Question Id : 48558439471 Question Type : MCQ Option Shuffling : No Is Question Mandatory : No Calculator : None
Response Time : N.A Think Time : N.A Minimum Instruction Time : 0

Correct Marks : 5 Wrong Marks : 1

Question Key Details :

Key	Value
Comprehension	MCQ

$3 \mu\text{F}$, $6 \mu\text{F}$ और $12 \mu\text{F}$ धारिता वाले तीन संधारित्रों को श्रेणीक्रम में संयोजित किया गया। यदि 7 V की बैटरी को इस संयोजन द्वारा जोड़ा गया है तो $6 \mu\text{F}$ के संधारित्र के सिरों पर विभवान्तर ज्ञात कीजिए:

1. 1 V
2. 2 V
3. 3 V
4. 4 V

Options :

485584157881. 1
485584157882. 2
485584157883. 3
485584157884. 4

Question Number : 977 Question Id : 48558439472 Question Type : MCQ Option Shuffling : No Is Question Mandatory : No Calculator : None
Response Time : N.A Think Time : N.A Minimum Instruction Time : 0

Correct Marks : 5 Wrong Marks : 1

Question Key Details :

Key	Value
Comprehension	MCQ

Kirchhoff's Second Law is based on law of conservation of:

1. Charge
2. Energy
3. Momentum
4. Mass and Energy

Options :

485584157885. 1
485584157886. 2
485584157887. 3
485584157888. 4

**Question Number : 977 Question Id : 48558439472 Question Type : MCQ Option Shuffling : No Is Question Mandatory : No Calculator : None
Response Time : N.A Think Time : N.A Minimum Instruction Time : 0
Correct Marks : 5 Wrong Marks : 1**

Question Key Details :

Key	Value
Comprehension	MCQ

किरचॉफ का दूसरा नियम-----के संरक्षण नियम पर आधारित है।

1. आवेश
2. ऊर्जा
3. संवेग
4. द्रव्यमान एवं ऊर्जा

Options :

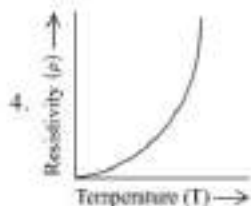
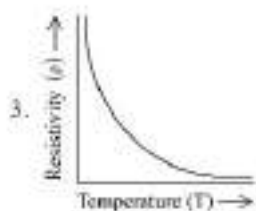
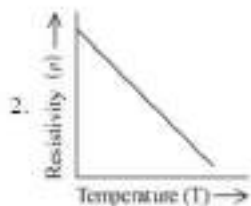
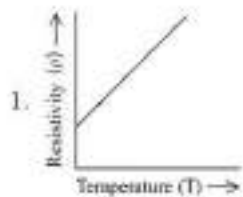
485584157885. 1
485584157886. 2
485584157887. 3
485584157888. 4

**Question Number : 978 Question Id : 48558439473 Question Type : MCQ Option Shuffling : No Is Question Mandatory : No Calculator : None
Response Time : N.A Think Time : N.A Minimum Instruction Time : 0
Correct Marks : 5 Wrong Marks : 1**

Question Key Details :

Key	Value
Comprehension	MCQ

Identify the graph from the following showing the temperature dependence of resistivity for a typical semiconductor?



Options :

485584157889. 1

485584157890. 2

485584157891. 3

485584157892. 4

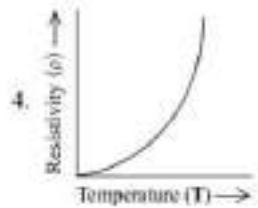
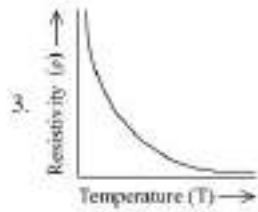


Question Number : 978 Question Id : 48558439473 Question Type : MCQ Option Shuffling : No Is Question Mandatory : No Calculator : None
Response Time : N.A Think Time : N.A Minimum Instruction Time : 0

Correct Marks : 5 Wrong Marks : 1

Question Key Details :

Key	Value
Comprehension	MCQ

किसी विशिष्ट अर्धचालक की प्रतिरोधकता की ताप पर निर्भरता को निम्न दर्शाए गए ग्राफों में से पहचानिए?



Options :

485584157889. 1

485584157890. 2

485584157891. 3

485584157892. 4

Question Number : 979 Question Id : 48558439474 Question Type : MCQ Option Shuffling : No Is Question Mandatory : No Calculator : None

Response Time : N.A Think Time : N.A Minimum Instruction Time : 0

Correct Marks : 5 Wrong Marks : 1

Question Key Details :

Key	Value
Comprehension	MCQ

In a potentiometer arrangement a cell of 1.5 V gives a balance point at 45.0 cm length of the wire. If the cell is replaced by another cell and the balance point shifts to 75.0 cm, what is the emf of the second cell?

1. 2.5 V

2. 1.0 V

3. 1.1 V

4. 1.5 V

Options :

485584157893. 1

485584157894. 2

485584157895. 3

485584157896. 4

Question Number : 979 Question Id : 48558439474 Question Type : MCQ Option Shuffling : No Is Question Mandatory : No Calculator : None
 Response Time : N.A Think Time : N.A Minimum Instruction Time : 0
 Correct Marks : 5 Wrong Marks : 1
 Question Key Details :

Key	Value
Comprehension	MCQ

किसी विभवमापी 1.5 V का सेल तार 45.0 cm लम्बाई पर संतुलन बिन्दु दर्शाता है। यदि इस सेल को दूसरे सेल द्वारा प्रतिस्थापित कर दिया जाए तो संतुलन बिन्दु 75.0 cm पर खिसक जाता है, दूसरे सेल का वि.वा.बल (emf) क्या होगा?

1. 2.5 V
2. 1.0 V
3. 1.1 V
4. 1.5 V

Options :
 485584157893. 1
 485584157894. 2
 485584157895. 3
 485584157896. 4

Question Number : 980 Question Id : 48558439475 Question Type : MCQ Option Shuffling : No Is Question Mandatory : No Calculator : None
 Response Time : N.A Think Time : N.A Minimum Instruction Time : 0
 Correct Marks : 5 Wrong Marks : 1
 Question Key Details :

Key	Value
Comprehension	MCQ

A room heater is rated 750 W, 220 V. An electric bulb rated 200 W, 220 V is connected in series with this heater. What will be the power consumed by the bulb and the heater respectively, when the supply is at 220 V?

1. $P_B = 124.8 \text{ W}$, $P_H = 33.25 \text{ W}$
2. $P_B = 33.25 \text{ W}$, $P_H = 124.8 \text{ W}$
3. $P_B = 124.8 \text{ W}$, $P_H = 124.8 \text{ W}$
4. $P_B = 33.25 \text{ W}$, $P_H = 33.25 \text{ W}$

Options :
 485584157897. 1
 485584157898. 2
 485584157899. 3
 485584157900. 4

Question Number : 980 Question Id : 48558439475 Question Type : MCQ Option Shuffling : No Is Question Mandatory : No Calculator : None
 Response Time : N.A Think Time : N.A Minimum Instruction Time : 0
 Correct Marks : 5 Wrong Marks : 1
 Question Key Details :

Key	Value
Comprehension	MCQ

750 W और 220 V पर निर्धारित एक हीटर है। 200 W, 220 V का एक विद्युत बल्ब इस से श्रेणीक्रम में संयोजित किया गया। जब परिपथ को 220 V पर आपूर्ति हो तो बल्ब और हीटर द्वारा उपभोग की जाने वाली शक्ति क्रमशः होगी?

1. $P_B = 124.8 \text{ W}, P_H = 33.25 \text{ W}$
2. $P_B = 33.25 \text{ W}, P_H = 124.8 \text{ W}$
3. $P_B = 124.8 \text{ W}, P_H = 124.8 \text{ W}$
4. $P_B = 33.25 \text{ W}, P_H = 33.25 \text{ W}$

Options :

485584157897. 1
 485584157898. 2
 485584157899. 3
 485584157900. 4

Question Number : 981 Question Id : 48558439476 Question Type : MCQ Option Shuffling : No Is Question Mandatory : No Calculator : None Response Time : N.A Think Time : N.A Minimum Instruction Time : 0

Correct Marks : 5 Wrong Marks : 1

Question Key Details :

Key	Value
Comprehension	MCQ

A cell of constant emf is first connected to a resistance R_1 and then to R_2 . If power delivered in both cases are same, then the internal resistance of the cell is:

1. $\sqrt{R_1 R_2}$
2. $\sqrt{R_1 / R_2}$
3. $\frac{R_1 + R_2}{2}$
4. $\frac{R_1 - R_2}{2}$

Options :

485584157901. 1
 485584157902. 2
 485584157903. 3
 485584157904. 4

Question Number : 981 Question Id : 48558439476 Question Type : MCQ Option Shuffling : No Is Question Mandatory : No Calculator : None Response Time : N.A Think Time : N.A Minimum Instruction Time : 0

Correct Marks : 5 Wrong Marks : 1

Question Key Details :

Key	Value
Comprehension	MCQ

नियत वि.वा.ब. का सेल पहले R_1 प्रतिरोध से और फिर R_2 से संयोजित किया गया। यदि दोनों संयोजनों द्वारा शक्ति का स्थानांतरण समान है तो सेल का आंतरिक प्रतिरोध होगा:

1. $\sqrt{R_1 R_2}$

2. $\sqrt{R_1 / R_2}$

3. $\frac{R_1 + R_2}{2}$

4. $\frac{R_1 - R_2}{2}$

Options :

- 485584157901. 1
- 485584157902. 2
- 485584157903. 3
- 485584157904. 4

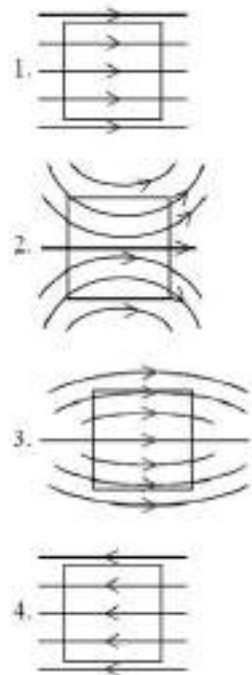
Question Number : 982 Question Id : 48558439477 Question Type : MCQ Option Shuffling : No Is Question Mandatory : No Calculator : None Response Time : N.A Think Time : N.A Minimum Instruction Time : 0

Correct Marks : 5 Wrong Marks : 1

Question Key Details :

Key	Value
Comprehension	MCQ

A uniform magnetic field, parallel to the plane of the paper existed in space initially directed from left to right. When a bar of soft iron is placed in the field parallel to it, the lines of force passing through it will be represented by:



Options :

- 485584157905. 1
- 485584157906. 2
- 485584157907. 3
- 485584157908. 4

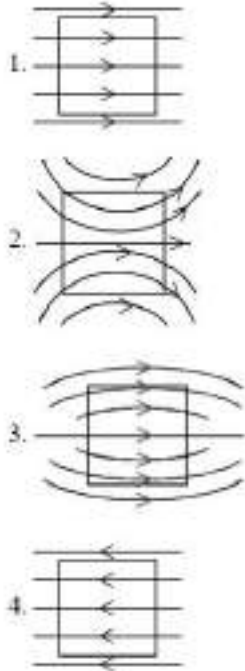
Question Number : 982 Question Id : 48558439477 Question Type : MCQ Option Shuffling : No Is Question Mandatory : No Calculator : None
Response Time : N.A Think Time : N.A Minimum Instruction Time : 0

Correct Marks : 5 Wrong Marks : 1

Question Key Details :

Key	Value
Comprehension	MCQ

एक समान चुम्बकीय क्षेत्र, जो कागज़ के समतल के समान्तर अवस्थित है, प्रारंभ में बाएँ से दाएँ की ओर दिशित है। जब एक लोहे की छड़ इस क्षेत्र के समान्तर इसमें रखी जाती है तो इसके द्वारा प्रवाहित चुम्बकीय बल रेखाएँ द्वारा निरूपित की जाएँगी:



Options :

485584157905. 1

485584157906. 2

485584157907. 3

485584157908. 4

Question Number : 983 Question Id : 48558439478 Question Type : MCQ Option Shuffling : No Is Question Mandatory : No Calculator : None
Response Time : N.A Think Time : N.A Minimum Instruction Time : 0

Correct Marks : 5 Wrong Marks : 1

Question Key Details :

Key	Value
Comprehension	MCQ

To protect galvanometer from possible damages due to large current, which of the following should be connected to its coil:

1. Low resistance wire in series
2. High resistance wire in series
3. High resistance wire in parallel
4. Low resistance wire in parallel

Options :

485584157909. 1

485584157910. 2

485584157911. 3

485584157912. 4

Question Number : 983 Question Id : 48558439478 Question Type : MCQ Option Shuffling : No Is Question Mandatory : No Calculator : None
Response Time : N.A Think Time : N.A Minimum Instruction Time : 0
Correct Marks : 5 Wrong Marks : 1
Question Key Details :

Key	Value
Comprehension	MCQ

अधिक धारा प्रवाह के कारण गैल्वेनोमीटर को खराब होने से बचाने के लिए, निम्नलिखित में.....को कुण्डली से संयोजित किया जाना चाहिए:

1. श्रेणीक्रम में कम प्रतिरोध की तार
2. श्रेणीक्रम में अधिक प्रतिरोध की तार
3. पार्श्वक्रम में अधिक प्रतिरोध की तार
4. पार्श्वक्रम में कम प्रतिरोध की तार

Options :

485584157909. 1
485584157910. 2
485584157911. 3
485584157912. 4

Question Number : 984 Question Id : 48558439479 Question Type : MCQ Option Shuffling : No Is Question Mandatory : No Calculator : None
Response Time : N.A Think Time : N.A Minimum Instruction Time : 0

Correct Marks : 5 Wrong Marks : 1

Question Key Details :

Key	Value
Comprehension	MCQ

The charge which is a source of electric field but not of magnetic field is -

1. A charge moving in a straight line
2. A charge static in space having zero speed
3. A charge moving on helical path of pitch
4. A charge oscillating with frequency ' ν '

Options :

485584157913. 1
485584157914. 2
485584157915. 3
485584157916. 4

Question Number : 984 Question Id : 48558439479 Question Type : MCQ Option Shuffling : No Is Question Mandatory : No Calculator : None
Response Time : N.A Think Time : N.A Minimum Instruction Time : 0

Correct Marks : 5 Wrong Marks : 1

Question Key Details :

Key	Value
Comprehension	MCQ

वह आवेश जो विद्युत क्षेत्र का तो स्रोत है किन्तु चुम्बकीय क्षेत्र का नहीं -

1. सीधी रेखा में चलने वाला आवेश
2. किसी स्थान पर शून्य गति का स्थिर आवेश
3. पिच पर सर्पाकार पथ पर गतिमान आवेश
4. 'V' आवृत्ति से कम्पन करता हुआ आवेश

Options :

485584157913. 1
485584157914. 2
485584157915. 3
485584157916. 4

Question Number : 985 Question Id : 48558439480 Question Type : MCQ Option Shuffling : No Is Question Mandatory : No Calculator : None Response Time : N.A Think Time : N.A Minimum Instruction Time : 0

Correct Marks : 5 Wrong Marks : 1

Question Key Details :

Key	Value
Comprehension	MCQ

There is a thin conducting wire carrying current. The value of magnetic field induction at any point on the conductor would be:

1. Zero
2. Coustaat
3. Positive
4. Negative

Options :

485584157917. 1
485584157918. 2
485584157919. 3
485584157920. 4

Question Number : 985 Question Id : 48558439480 Question Type : MCQ Option Shuffling : No Is Question Mandatory : No Calculator : None Response Time : N.A Think Time : N.A Minimum Instruction Time : 0

Correct Marks : 5 Wrong Marks : 1

Question Key Details :

Key	Value
Comprehension	MCQ

एक पतली धारावाही चालक तार में किसी बिन्दु पर प्रेरण द्वारा उत्पन्न चुम्बकीय क्षेत्र का मान होगा:

1. शून्य
2. स्थिर
3. घनात्मक
4. ऋणात्मक

Options :

485584157917. 1
485584157918. 2
485584157919. 3

485584157920. 4

Question Number : 986 Question Id : 48558439481 Question Type : MCQ Option Shuffling : No Is Question Mandatory : No Calculator : None
Response Time : N.A Think Time : N.A Minimum Instruction Time : 0
Correct Marks : 5 Wrong Marks : 1

Question Key Details :

Key	Value
Comprehension	MCQ

The coercivity of a bar magnet is 140 A m^{-1} . To demagnetize it, it is placed inside a solenoid of length 1.6 m and number of turns 112 . What is the current flowing through the solenoid?

1. 9 A
2. 2.25 A
3. 2 A
4. 1.25 A

Options :

- 485584157921. 1
- 485584157922. 2
- 485584157923. 3
- 485584157924. 4

Question Number : 986 Question Id : 48558439481 Question Type : MCQ Option Shuffling : No Is Question Mandatory : No Calculator : None
Response Time : N.A Think Time : N.A Minimum Instruction Time : 0
Correct Marks : 5 Wrong Marks : 1

Question Key Details :

Key	Value
Comprehension	MCQ

किसी छड़ चुम्बक की निग्रहितता 140 A m^{-1} है। विचुंबकन हेतु इसे 1.6 m लम्बाई और 112 फेरों वाली परिनालिका के भीतर रखा गया। इस परिनालिका द्वारा प्रवाहित धारा क्या है?

1. 9 A
2. 2.25 A
3. 2 A
4. 1.25 A

Options :

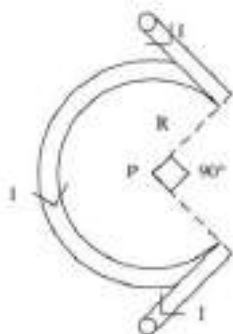
- 485584157921. 1
- 485584157922. 2
- 485584157923. 3
- 485584157924. 4

Question Number : 987 Question Id : 48558439482 Question Type : MCQ Option Shuffling : No Is Question Mandatory : No Calculator : None
Response Time : N.A Think Time : N.A Minimum Instruction Time : 0
Correct Marks : 5 Wrong Marks : 1

Question Key Details :

Key	Value
Comprehension	MCQ

Magnetic field $|\vec{B}|$ at a point P in the following network is:



1. $\frac{\mu_0 I}{4\pi R} \left(\frac{3}{2} \pi \right)$

2. $\frac{\mu_0 I}{4\pi R} \left(\frac{3}{2} \pi + 2 \right)$

3. $\frac{\mu_0 I}{4\pi R} \left(\frac{3}{2} \pi - 2 \right)$

4. $\frac{3 \mu_0 I}{2 R}$

Options :

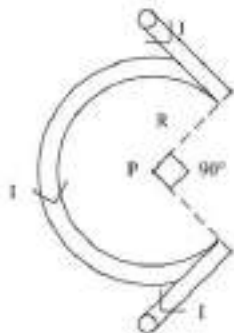
- 485584157925. 1
- 485584157926. 2
- 485584157927. 3
- 485584157928. 4

Question Number : 987 Question Id : 48558439482 Question Type : MCQ Option Shuffling : No Is Question Mandatory : No Calculator : None
 Response Time : N.A Think Time : N.A Minimum Instruction Time : 0
 Correct Marks : 5 Wrong Marks : 1

Question Key Details :

Key	Value
Comprehension	MCQ

निम्नलिखित नेटवर्क में किसी बिंदु P पर चुम्बकीय क्षेत्र $|B|$ है।



1. $\frac{\mu_0 I}{4\pi R} \left(\frac{3}{2} \pi \right)$

2. $\frac{\mu_0 I}{4\pi R} \left(\frac{3}{2} \pi + 2 \right)$

3. $\frac{\mu_0 I}{4\pi R} \left(\frac{3}{2} \pi - 2 \right)$

4. $\frac{3 \mu_0 I}{2 R}$

Options :

- 485584157925. 1
- 485584157926. 2
- 485584157927. 3
- 485584157928. 4

Question Number : 988 Question Id : 48558439483 Question Type : MCQ Option Shuffling : No Is Question Mandatory : No Calculator : None Response Time : N.A Think Time : N.A Minimum Instruction Time : 0

Correct Marks : 5 Wrong Marks : 1

Question Key Details :

Key	Value
Comprehension	MCQ

Which one out of the following is not an application of eddy currents?

- 1. Transformers
- 2. Speedometers
- 3. Magnetic Brakes
- 4. Induction furnace

Options :

- 485584157929. 1
- 485584157930. 2
- 485584157931. 3
- 485584157932. 4

Question Number : 988 Question Id : 48558439483 Question Type : MCQ Option Shuffling : No Is Question Mandatory : No Calculator : None Response Time : N.A Think Time : N.A Minimum Instruction Time : 0

Correct Marks : 5 Wrong Marks : 1

Question Key Details :

Key	Value
Comprehension	MCQ

निम्नलिखित में कौन सा भेदक धाराओं का अनुप्रयोग नहीं है?

1. ट्रांसफार्मर
2. स्पीडोमीटर (चालमापी)
3. चुम्बकीय ब्रेक
4. प्रेरण भट्टी

Options :

485584157929. 1
485584157930. 2
485584157931. 3
485584157932. 4

Question Number : 989 Question Id : 48558439484 Question Type : MCQ Option Shuffling : No Is Question Mandatory : No Calculator : None Response Time : N.A Think Time : N.A Minimum Instruction Time : 0

Correct Marks : 5 Wrong Marks : 1

Question Key Details :

Key	Value
Comprehension	MCQ

In an a.c. circuit, the rms voltage is $100\sqrt{2}$ V. The peak value of voltage would be:

1. 200 V
2. 100 V
3. 141 V
4. 70.5 V

Options :

485584157933. 1
485584157934. 2
485584157935. 3
485584157936. 4

Question Number : 989 Question Id : 48558439484 Question Type : MCQ Option Shuffling : No Is Question Mandatory : No Calculator : None Response Time : N.A Think Time : N.A Minimum Instruction Time : 0

Correct Marks : 5 Wrong Marks : 1

Question Key Details :

Key	Value
Comprehension	MCQ

a.c. परिपथ में rms वोल्टता $100\sqrt{2}$ V है। इस वोल्टता का चरम मान होगा:

1. 200 V
2. 100 V
3. 141 V
4. 70.5 V

Options :

485584157933. 1
485584157934. 2

Question Number : 990 Question Id : 48558439485 Question Type : MCQ Option Shuffling : No Is Question Mandatory : No Calculator : None

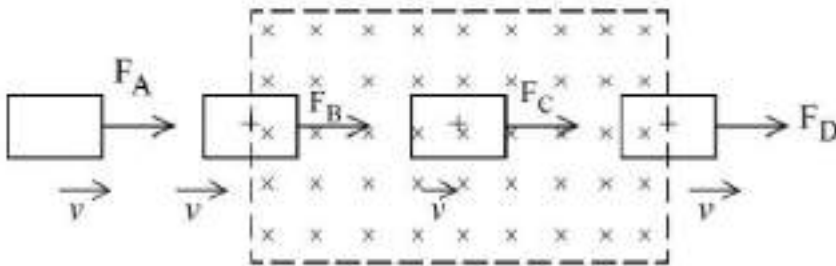
Response Time : N.A Think Time : N.A Minimum Instruction Time : 0

Correct Marks : 5 Wrong Marks : 1

Question Key Details :

Key	Value
Comprehension	MCQ

A square loop of copper wire is pulled through a region of uniform magnetic field as shown. Rank the pulling forces F_A , F_B , F_C and F_D that must be applied to keep the loop moving with constant speed (\vec{v}):



1. $F_B = F_D, F_A = F_C$
2. $F_C > F_B = F_D > F_A$
3. $F_C > F_D > F_B > F_A$
4. $F_D > F_B > F_A = F_C$

Options :

485584157937. 1

485584157938. 2

485584157939. 3

485584157940. 4

Question Number : 990 Question Id : 48558439485 Question Type : MCQ Option Shuffling : No Is Question Mandatory : No Calculator : None

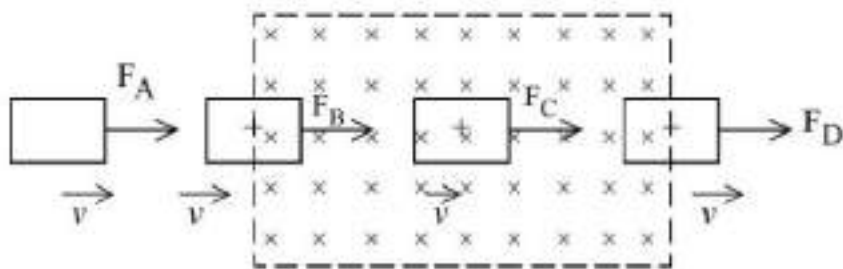
Response Time : N.A Think Time : N.A Minimum Instruction Time : 0

Correct Marks : 5 Wrong Marks : 1

Question Key Details :

Key	Value
Comprehension	MCQ

दर्शाए गए चित्रानुसार एक समान चुम्बकीय क्षेत्र के किसी खण्ड में तर्जाकार तारों की तार पाश को धकेला गया। पाश को नियत चाल से गतिमान रखने के लिए उन पर निरूपित बल F_A , F_B , F_C और F_D को पंक्तिबद्ध करिए :



1. $F_B = F_D, F_A = F_C$
2. $F_C > F_B = F_D > F_A$
3. $F_C > F_D > F_B > F_A$
4. $F_D > F_B > F_A = F_C$

Options :

485584157937. 1
 485584157938. 2
 485584157939. 3
 485584157940. 4

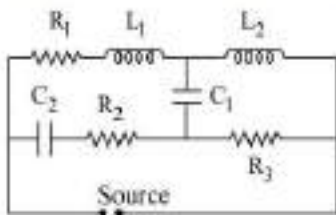
Question Number : 991 Question Id : 48558439486 Question Type : MCQ Option Shuffling : No Is Question Mandatory : No Calculator : None Response Time : N.A Think Time : N.A Minimum Instruction Time : 0

Correct Marks : 5 Wrong Marks : 1

Question Key Details :

Key	Value
Comprehension	MCQ

Find the effective impedance in the circuit if the source is a) DC source and b) High frequency AC source



1. For DC, $Z = R_2 + R_3$ and for AC, $Z = R_1 + R_3$
2. For DC, $Z = R_1$ and for AC, $Z = R_2 + R_3$
3. For DC, $Z = \infty$ and for AC, $Z = 0$
4. For DC, $Z = 0$ and for AC, $Z = \infty$

Options :

485584157941. 1
 485584157942. 2
 485584157943. 3
 485584157944. 4

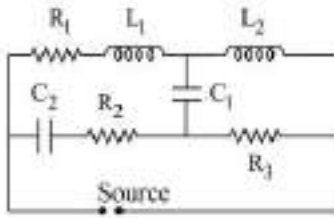
Question Number : 991 Question Id : 48558439486 Question Type : MCQ Option Shuffling : No Is Question Mandatory : No Calculator : None Response Time : N.A Think Time : N.A Minimum Instruction Time : 0

Correct Marks : 5 Wrong Marks : 1

Question Key Details :

Key	Value
Comprehension	MCQ

किसी परिपथ में प्रभावी प्रतिबाधा का मान ज्ञात कीजिए यदि स्रोत है (a) DC स्रोत और (b) उच्च आवृत्ति का AC स्रोत



1. DC के लिए $Z = R_2 + R_3$ और AC के लिए $Z = R_1 + R_3$
2. DC के लिए $Z = R_1$ और AC के लिए $Z = R_2 + R_3$
3. DC के लिए $Z = \infty$ और AC के लिए $Z = 0$
4. DC के लिए $Z = 0$ और AC के लिए $Z = \infty$

Options :

485584157941. 1
 485584157942. 2
 485584157943. 3
 485584157944. 4

Question Number : 992 Question Id : 48558439487 Question Type : MCQ Option Shuffling : No Is Question Mandatory : No Calculator : None
 Response Time : N.A Think Time : N.A Minimum Instruction Time : 0
 Correct Marks : 5 Wrong Marks : 1
 Question Key Details :

Key	Value
Comprehension	MCQ

In AC circuits, the relation that holds is $Z = \frac{E_{eff}}{I_{eff}}$ where,

- A. $Z = \sqrt{R^2 + X_L^2}$ in case of a.c. circuit containing R and L in series.
- B. $Z = \sqrt{R^2 + X_C^2}$ in case of a.c. circuit containing R and C in series.
- C. $Z = X_L - X_C$ in case of a.c. circuit containing L and C in series.
- D. $Z = \sqrt{R^2 + (X_L - X_C)^2}$ in case of a.c. circuit containing R, L and C in series.

Choose the correct answer from the options given below:

1. A, C, D only
2. A, B, C only
3. A, B, D only
4. A, B, C, D only

Options :

485584157945. 1
 485584157946. 2
 485584157947. 3
 485584157948. 4

Question Number : 992 Question Id : 48558439487 Question Type : MCQ Option Shuffling : No Is Question Mandatory : No Calculator : None
 Response Time : N.A Think Time : N.A Minimum Instruction Time : 0
 Correct Marks : 5 Wrong Marks : 1
 Question Key Details :

Key	Value
Comprehension	MCQ

AC परिपथ में, जहाँ $Z = \frac{E_{\text{RMS}}}{I_{\text{RMS}}}$, संबंध है।

- A. $Z = \sqrt{R^2 + X_L^2}$, a.c. परिपथ जिसमें R और L श्रेणीक्रम में हैं।
 B. $Z = \sqrt{R^2 + X_C^2}$, a.c. परिपथ जिसमें R और C श्रेणीक्रम में हैं।
 C. $Z = X_L - X_C$, a.c. परिपथ में जहाँ L और C श्रेणीक्रम में हैं।
 D. $Z = \sqrt{R^2 + (X_L - X_C)^2}$, a.c. परिपथ में जहाँ R, L और C श्रेणीक्रम में हैं।

नीचे दिए गए विकल्पों में से सही उत्तर का चयन कीजिए:

1. केवल A, C, D
2. केवल A, B, C
3. केवल A, B, D
4. केवल A, B, C और D

Options :

485584157945. 1
 485584157946. 2
 485584157947. 3
 485584157948. 4

Question Number : 993 Question Id : 48558439488 Question Type : MCQ Option Shuffling : No Is Question Mandatory : No Calculator : None Response Time : N.A Think Time : N.A Minimum Instruction Time : 0

Correct Marks : 5 Wrong Marks : 1

Question Key Details :

Key	Value
Comprehension	MCQ

When 100 V dc is applied across a solenoid, a current of 1A flows in it. When 100 V ac is applied across the same solenoid the current drops to 0.5A. If the frequency of the ac source is 50 Hz, the impedance and inductance of the solenoid are:

1. 200 Ω and 0.55 H
2. 100 Ω and 0.86 H
3. 200 Ω and 1.0 H
4. 100 Ω and 0.93 H

Options :

485584157949. 1
 485584157950. 2
 485584157951. 3
 485584157952. 4

Question Number : 993 Question Id : 48558439488 Question Type : MCQ Option Shuffling : No Is Question Mandatory : No Calculator : None Response Time : N.A Think Time : N.A Minimum Instruction Time : 0

Correct Marks : 5 Wrong Marks : 1

Question Key Details :

Key	Value
Comprehension	MCQ

जब किसी परिनालिका पर 100 V dc निरूपित की जाए तो उससे 1A का धारा प्रवाहित होती है। जब उसी परिनालिका से 100 V ac निरूपित की जाए तो धारा 0.5A पर गिर जाती है। यदि A.C. स्रोत का आवृत्ति 50 Hz है तो परिनालिका की प्रतिबाधा एवं प्रेरकत्व होगा :

1. 200 Ω और 0.55 H
2. 100 Ω और 0.86 H
3. 200 Ω और 1.0 H
4. 100 Ω और 0.93 H

Options :

485584157949. 1
 485584157950. 2
 485584157951. 3
 485584157952. 4

Question Number : 994 Question Id : 48558439489 Question Type : MCQ Option Shuffling : No Is Question Mandatory : No Calculator : None
 Response Time : N.A Think Time : N.A Minimum Instruction Time : 0

Correct Marks : 5 Wrong Marks : 1

Question Key Details :

Key	Value
Comprehension	MCQ

Match List I with List II

LIST I		LIST II	
A.	X-rays	I.	$1 \times 10^{16} - 3 \times 10^{21}$ Hz
B.	Microwaves	II.	$1 \times 10^9 - 3 \times 10^{13}$ Hz
C.	Radiowaves	III.	$1 \times 10^{14} - 5 \times 10^{22}$ Hz
D.	γ -rays	IV.	$5 \times 10^3 - 10^9$ Hz

Choose the correct answer from the options given below:

1. A-II, B-III, C-I, D-IV
2. A-III, B-I, C-II, D-IV
3. A-I, B-II, C-IV, D-III
4. A-IV, B-III, C-II, D-I

Options :

485584157953. 1
 485584157954. 2
 485584157955. 3
 485584157956. 4

Question Number : 994 Question Id : 48558439489 Question Type : MCQ Option Shuffling : No Is Question Mandatory : No Calculator : None
 Response Time : N.A Think Time : N.A Minimum Instruction Time : 0

Correct Marks : 5 Wrong Marks : 1

Question Key Details :

Key	Value
Comprehension	MCQ

सूची I का सूची II से मिलान कीजिए

सूची I		सूची II	
A	एक्स-किरणें	I.	$1 \times 10^{16} - 3 \times 10^{21}$ Hz
B	सूक्ष्म किरणें	II.	$1 \times 10^9 - 3 \times 10^{13}$ Hz
C	रेडियो तरंगें	III.	$1 \times 10^{18} - 5 \times 10^{22}$ Hz
D	गामा-किरणें	IV.	$5 \times 10^5 - 10^6$ Hz

निम्नलिखित विकल्पों में से सही उत्तर का चयन कीजिए :

1. A-II, B-III, C-I, D-IV
2. A-III, B-I, C-II, D-IV
3. A-I, B-II, C-IV, D-III
4. A-IV, B-III, C-II, D-I

Options :

485584157953. 1
485584157954. 2
485584157955. 3
485584157956. 4

Question Number : 995 Question Id : 48558439490 Question Type : MCQ Option Shuffling : No Is Question Mandatory : No Calculator : None
Response Time : N.A Think Time : N.A Minimum Instruction Time : 0

Correct Marks : 5 Wrong Marks : 1

Question Key Details :

Key	Value
Comprehension	MCQ

An electromagnetic wave going through vacuum is described by $E = E_0 \sin(kx - \omega t)$, $B = B_0 \sin(kx - \omega t)$
then:

1. $E_0 k = B_0 \omega$
2. $E_0 \omega = B_0 k$
3. $E_0 B_0 = \omega k$
4. $\frac{E_0}{B_0} = \sqrt{\frac{\omega}{k}}$

Options :

485584157957. 1
485584157958. 2
485584157959. 3
485584157960. 4

Question Number : 995 Question Id : 48558439490 Question Type : MCQ Option Shuffling : No Is Question Mandatory : No Calculator : None
Response Time : N.A Think Time : N.A Minimum Instruction Time : 0

Correct Marks : 5 Wrong Marks : 1

Question Key Details :

Key	Value
Comprehension	MCQ

निर्वात से गज़रती हुई विद्युतचुम्बकीय तरंग को $E = E_0 \sin(kx - \omega t)$, $B = B_0 \sin(kx - \omega t)$ द्वारा परिभाषित किया जाए तो:

1. $E_0 k = B_0 \omega$
2. $E_0 \omega = B_0 k$
3. $E_0 B_0 = \omega k$
4. $\frac{E_0}{B_0} = \sqrt{\frac{\omega}{k}}$

Options :

485584157957. 1
485584157958. 2
485584157959. 3
485584157960. 4

Question Number : 996 Question Id : 48558439491 Question Type : MCQ Option Shuffling : No Is Question Mandatory : No Calculator : None Response Time : N.A Think Time : N.A Minimum Instruction Time : 0

Correct Marks : 5 Wrong Marks : 1

Question Key Details :

Key	Value
Comprehension	MCQ

Light is travelling from one medium to other medium as given in the options. In which of the following options total internal reflection will be possible?

1. Air to water
2. Air to glass
3. Water to glass
4. Glass to water

Options :

485584157961. 1
485584157962. 2
485584157963. 3
485584157964. 4

Question Number : 996 Question Id : 48558439491 Question Type : MCQ Option Shuffling : No Is Question Mandatory : No Calculator : None Response Time : N.A Think Time : N.A Minimum Instruction Time : 0

Correct Marks : 5 Wrong Marks : 1

Question Key Details :

Key	Value
Comprehension	MCQ

विकल्पों में प्रकाश एक माध्यम से दूसरे माध्यम में प्रवेश करता है। निम्नलिखित विकल्पों में किसमें पूर्ण आंतरिक परावर्तन संभव होगा?

1. वापु से जल
2. वापु से काँच
3. जल से काँच
4. काँच से जल

Options :

485584157961. 1
 485584157962. 2
 485584157963. 3
 485584157964. 4

Question Number : 997 Question Id : 48558439492 Question Type : MCQ Option Shuffling : No Is Question Mandatory : No Calculator : None
 Response Time : N.A Think Time : N.A Minimum Instruction Time : 0
 Correct Marks : 5 Wrong Marks : 1

Question Key Details :

Key	Value
Comprehension	MCQ

A slit of width e is illuminated by light of wavelength λ . What should be the value of e to obtain the first maximum at an angle of diffraction of $\frac{\pi}{3}$?

1. $\frac{2}{\sqrt{3}} \lambda$
2. $\frac{\lambda}{\sqrt{3}}$
3. $\sqrt{3} \lambda$
4. $\frac{\sqrt{3}}{2} \lambda$

Options :

485584157965. 1
 485584157966. 2
 485584157967. 3
 485584157968. 4

Question Number : 997 Question Id : 48558439492 Question Type : MCQ Option Shuffling : No Is Question Mandatory : No Calculator : None
 Response Time : N.A Think Time : N.A Minimum Instruction Time : 0
 Correct Marks : 5 Wrong Marks : 1

Question Key Details :

Key	Value
Comprehension	MCQ

λ तरंगदैर्घ्य की एक प्रकाश किरण e चौड़ाई की पट्टिका द्वारा प्रकाशित होती है। $\frac{\pi}{3}$ विवर्तन कोण पर पहली अधिकतम तरंगदैर्घ्य की किरण को e का मान क्या होना चाहिए?

1. $\frac{2}{\sqrt{3}} \lambda$
2. $\frac{\lambda}{\sqrt{3}}$
3. $\sqrt{3} \lambda$
4. $\frac{\sqrt{3}}{2} \lambda$

Options :

485584157965. 1
 485584157966. 2
 485584157967. 3
 485584157968. 4

Question Number : 998 Question Id : 48558439493 Question Type : MCQ Option Shuffling : No Is Question Mandatory : No Calculator : None
Response Time : N.A Think Time : N.A Minimum Instruction Time : 0
Correct Marks : 5 Wrong Marks : 1

Question Key Details :

Key	Value
Comprehension	MCQ

In Young's double slit experiment, yellow light of wavelength 640 nm produces fringes of width 0.8 mm. What will be the fringe width if the light source is replaced by another monochromatic source of wavelength 720 nm and the separation between the slits is made thrice ?

1. 2.4 mm
2. 2.7 mm
3. 0.3 mm
4. 0.03 mm

Options :

485584157969. 1
485584157970. 2
485584157971. 3
485584157972. 4

Question Number : 998 Question Id : 48558439493 Question Type : MCQ Option Shuffling : No Is Question Mandatory : No Calculator : None
Response Time : N.A Think Time : N.A Minimum Instruction Time : 0

Correct Marks : 5 Wrong Marks : 1

Question Key Details :

Key	Value
Comprehension	MCQ

यंग के द्विझिरी प्रयोग में 640 nm तरंगदैर्घ्य की पीले रंग के प्रकाश में 0.8 mm की फ्रिंज उत्पन्न हुई। यदि इस प्रकाश स्रोत को दूसरी 720 nm तरंगदैर्घ्य की एक वर्णीय प्रकाश से प्रतिस्थापित कर दिया जाए और दोनों झिरियों के माध्य दूरी तीन गुनी कर दी जाए तो फ्रिंज की चौड़ाई क्या होगी ?

1. 2.4 mm
2. 2.7 mm
3. 0.3 mm
4. 0.03 mm

Options :

485584157969. 1
485584157970. 2
485584157971. 3
485584157972. 4

Question Number : 999 Question Id : 48558439494 Question Type : MCQ Option Shuffling : No Is Question Mandatory : No Calculator : None
Response Time : N.A Think Time : N.A Minimum Instruction Time : 0

Correct Marks : 5 Wrong Marks : 1

Question Key Details :

Key	Value
Comprehension	MCQ

An astronomical telescope consists of an objective of focal length 50 cm and eyepiece of focal length 2 cm is focused on the moon so that the final image is formed at the least distance of distinct vision (25 cm). Assuming angular diameter of moon as $(1/2)^\circ$ at the objective, the angular size of image is:

1. 27°
2. 13.5°
3. 1°
4. 11.2°

Options :

485584157973. 1
 485584157974. 2
 485584157975. 3
 485584157976. 4

Question Number : 999 Question Id : 48558439494 Question Type : MCQ Option Shuffling : No Is Question Mandatory : No Calculator : None Response Time : N.A Think Time : N.A Minimum Instruction Time : 0 Correct Marks : 5 Wrong Marks : 1

Question Key Details :

Key	Value
Comprehension	MCQ

एक खगोलीय दूरबीन जिसके अभिदृश्यक की फोकस दूरी 50 cm और नेत्रिका की फोकस दूरी 2 cm है, को चन्द्रमा पर फोकसित किया गया ताकि अंतिम प्रतिबिम्ब सुस्पष्ट दृष्टि की अल्पतम दूरी (25 cm) पर बने। माना कि अभिदृश्यक पर चन्द्रमा का कोणीय व्यास $(1/2)^\circ$ तो प्रतिबिम्ब का कोणीय आकार-----है।

1. 27°
2. 13.5°
3. 1°
4. 11.2°

Options :

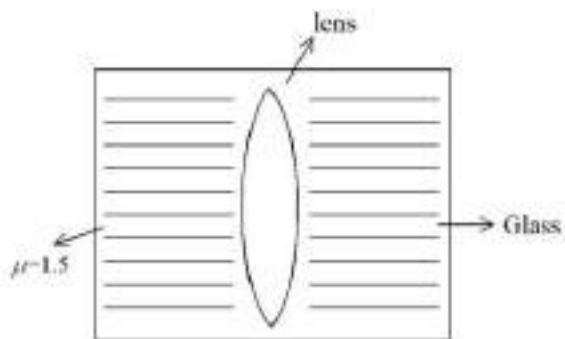
485584157973. 1
 485584157974. 2
 485584157975. 3
 485584157976. 4

Question Number : 1000 Question Id : 48558439495 Question Type : MCQ Option Shuffling : No Is Question Mandatory : No Calculator : None Response Time : N.A Think Time : N.A Minimum Instruction Time : 0 Correct Marks : 5 Wrong Marks : 1

Question Key Details :

Key	Value
Comprehension	MCQ

A spherical air lens of radii $R_1 = R_2 = 10$ cm is cut from a glass ($\mu = 1.5$) cylinder as shown in figure. Its focal length is f_1 . If a liquid of refractive index 2 is filled in the space then the focal length of liquid lens becomes f_2 . Calculate f_1 and f_2 . Choose the correct options from the following.



1. $f_1 = 15$ cm, $f_2 = 30$ cm
2. $f_1 = -15$ cm, $f_2 = +30$ cm
3. $f_1 = -15$ cm, $f_2 = +15$ cm
4. $f_1 = -30$ cm, $f_2 = -15$ cm

Options :

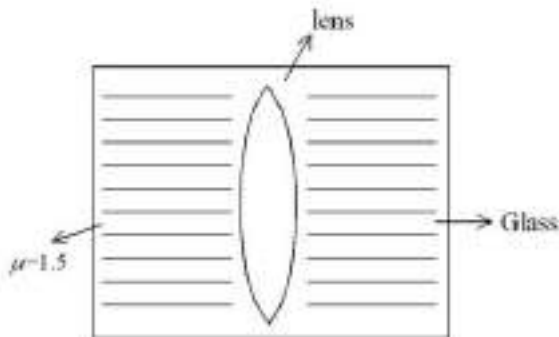
485584157977. 1
 485584157978. 2
 485584157979. 3
 485584157980. 4

Question Number : 1000 Question Id : 48558439495 Question Type : MCQ Option Shuffling : No Is Question Mandatory : No Calculator : None
 Response Time : N.A Think Time : N.A Minimum Instruction Time : 0
 Correct Marks : 5 Wrong Marks : 1
 Question Key Details :

Key	Value
Comprehension	MCQ

10 cm त्रिज्या ($R_1 = R_2$) के गोलीय वायु लेंस को बेलनाकार काँच ($\mu = 1.5$) से चित्रानुसार काटा गया। इसकी फोकस दूरी f_1 है। यदि इस स्थान को ऐसे द्रव जिसका अपवर्तनांक 2 है, से भरा जाए तो इस द्रवलेंस की फोकस दूरी f_2 हो जाती है। f_1 और f_2 की गणना कीजिए:

नीचे दिए गए विकल्पों में से सही उत्तर का चयन कीजिए:



1. $f_1 = 15$ cm, $f_2 = 30$ cm
2. $f_1 = -15$ cm, $f_2 = +30$ cm
3. $f_1 = -15$ cm, $f_2 = +15$ cm
4. $f_1 = -30$ cm, $f_2 = -15$ cm

Options :

485584157977. 1
 485584157978. 2
 485584157979. 3
 485584157980. 4

Question Number : 1001 Question Id : 48558439496 Question Type : MCQ Option Shuffling : No Is Question Mandatory : No Calculator : None Response Time : N.A Think Time : N.A Minimum Instruction Time : 0

Correct Marks : 5 Wrong Marks : 1

Question Key Details :

Key	Value
Comprehension	MCQ

Linear magnification produced by a mirror is +1.5

1. It is a concave mirror with object between F and 2F
2. It is a concave mirror with object between F and Pole
3. It is a convex mirror with object at infinity
4. It is a convex mirror with object anywhere in front of the mirror.

Options :

485584157981. 1
 485584157982. 2
 485584157983. 3
 485584157984. 4

Question Number : 1001 Question Id : 48558439496 Question Type : MCQ Option Shuffling : No Is Question Mandatory : No Calculator : None Response Time : N.A Think Time : N.A Minimum Instruction Time : 0

Correct Marks : 5 Wrong Marks : 1

Question Key Details :

Key	Value
-----	-------

दर्पण द्वारा उत्पन्न रेकीय संवर्धन + 1.5 है

1. यह अवतल दर्पण है जहाँ बिम्ब F और 2F के मध्य है।
2. यह अवतल दर्पण है जहाँ बिम्ब F और ध्रुव के मध्य है।
3. यह उत्तल दर्पण है जहाँ बिम्ब अनन्त पर है।
4. यह उत्तल दर्पण है जहाँ बिम्ब दर्पण के सामने कही भी रखा गया है।

Options :

485584157981. 1
485584157982. 2
485584157983. 3
485584157984. 4

Question Number : 1002 Question Id : 48558439497 Question Type : MCQ Option Shuffling : No Is Question Mandatory : No Calculator : None Response Time : N.A Think Time : N.A Minimum Instruction Time : 0

Correct Marks : 5 Wrong Marks : 1

Question Key Details :

Key	Value
Comprehension	MCQ

The type of wavefront that emerges from a distant light source is -

1. Cylindrical
2. Plane
3. Diverging spherical
4. Converging spherical

Options :

485584157985. 1
485584157986. 2
485584157987. 3
485584157988. 4

Question Number : 1002 Question Id : 48558439497 Question Type : MCQ Option Shuffling : No Is Question Mandatory : No Calculator : None Response Time : N.A Think Time : N.A Minimum Instruction Time : 0

Correct Marks : 5 Wrong Marks : 1

Question Key Details :

Key	Value
Comprehension	MCQ

एक दूरस्थ प्रकाश स्रोत से निर्गत होने वाली तरंग का प्रकार है।

1. बेलनाकार
2. समतल
3. अमिसारित गोलीय
4. अपसारित गोलीय

Options :

485584157985. 1
485584157986. 2
485584157987. 3

Question Number : 1003 Question Id : 48558439498 Question Type : MCQ Option Shuffling : No Is Question Mandatory : No Calculator : None
 Response Time : N.A Think Time : N.A Minimum Instruction Time : 0
 Correct Marks : 5 Wrong Marks : 1

Question Key Details :

Key	Value
Comprehension	MCQ

A proton, a neutron, an electron and α -particle have same energy. Their deBroglie wavelengths are λ_p , λ_d , λ_e and λ_α , respectively.

1. $\lambda_\alpha < \lambda_d < \lambda_p = \lambda_e$
2. $\lambda_\alpha < \lambda_d < \lambda_p < \lambda_e$
3. $\lambda_e < \lambda_p = \lambda_d < \lambda_\alpha$
4. $\lambda_e = \lambda_p = \lambda_d < \lambda_\alpha$

Options :

485584157989. 1
 485584157990. 2
 485584157991. 3
 485584157992. 4

Question Number : 1003 Question Id : 48558439498 Question Type : MCQ Option Shuffling : No Is Question Mandatory : No Calculator : None
 Response Time : N.A Think Time : N.A Minimum Instruction Time : 0
 Correct Marks : 5 Wrong Marks : 1

Question Key Details :

Key	Value
Comprehension	MCQ

एक प्रोटॉन, न्यूट्रॉन, इलेक्ट्रॉन और अल्फा (α) कण की समान ऊर्जा के है। उनकी डी-ब्रोग्ली तरंगदैर्घ्य क्रमशः λ_p , λ_d , λ_e और λ_α है:

1. $\lambda_\alpha < \lambda_d < \lambda_p = \lambda_e$
2. $\lambda_\alpha < \lambda_d < \lambda_p < \lambda_e$
3. $\lambda_e < \lambda_p = \lambda_d < \lambda_\alpha$
4. $\lambda_e = \lambda_p = \lambda_d < \lambda_\alpha$

Options :

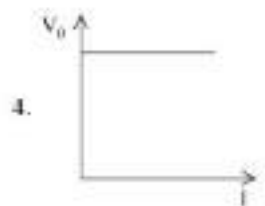
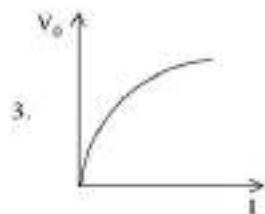
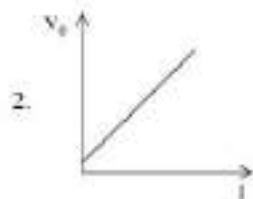
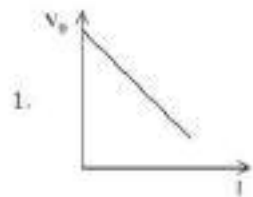
485584157989. 1
 485584157990. 2
 485584157991. 3
 485584157992. 4

Question Number : 1004 Question Id : 48558439499 Question Type : MCQ Option Shuffling : No Is Question Mandatory : No Calculator : None
 Response Time : N.A Think Time : N.A Minimum Instruction Time : 0
 Correct Marks : 5 Wrong Marks : 1

Question Key Details :

Key	Value
Comprehension	MCQ

The correct curve between stopping potential (V_0) and intensity of incident radiation (I) at constant frequency is:



Options :

- 485584157993. 1
- 485584157994. 2
- 485584157995. 3
- 485584157996. 4

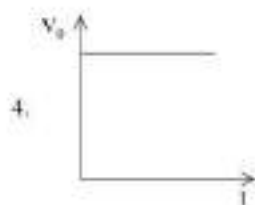
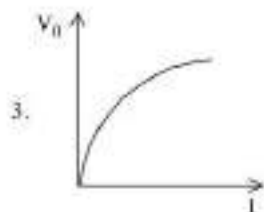
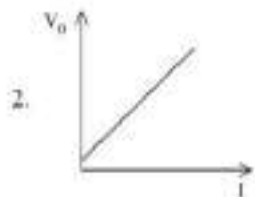
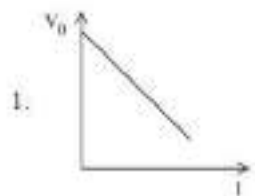
Question Number : 1004 Question Id : 48558439499 Question Type : MCQ Option Shuffling : No Is Question Mandatory : No Calculator : None
Response Time : N.A Think Time : N.A Minimum Instruction Time : 0

Correct Marks : 5 Wrong Marks : 1

Question Key Details :

Key	Value
Comprehension	MCQ

स्थिर आवृत्ति पर निरोधी विभव (V_0) और आपतित की तीव्रता के मध्य सही वक्र है:



Options :

- 485584157993. 1
- 485584157994. 2
- 485584157995. 3
- 485584157996. 4

Question Number : 1005 Question Id : 48558439500 Question Type : MCQ Option Shuffling : No Is Question Mandatory : No Calculator : None
 Response Time : N.A Think Time : N.A Minimum Instruction Time : 0
 Correct Marks : 5 Wrong Marks : 1

Question Key Details :

Key	Value
Comprehension	MCQ

Which of the following statements are correct?

- A. Photoelectric current depends on the intensity of light.
- B. The stopping potential is directly related to the maximum kinetic energy of electrons emitted which is dependent on the intensity of incident radiation.
- C. Photoelectric emission from a metal surface occurs due to absorption of a photon by an electron.
- D. Photoelectric effect follows the law of conservation of energy.

Choose the correct answer from the options given below:

- 1. A, B and C only
- 2. B, C and D only
- 3. A, C and D only
- 4. A, B and D only

Options :

485584157997. 1
 485584157998. 2
 485584157999. 3
 485584158000. 4

Question Number : 1005 Question Id : 48558439500 Question Type : MCQ Option Shuffling : No Is Question Mandatory : No Calculator : None
 Response Time : N.A Think Time : N.A Minimum Instruction Time : 0

Correct Marks : 5 Wrong Marks : 1

Question Key Details :

Key	Value
Comprehension	MCQ

निम्नलिखित में कौन सा कथन सत्य है?

- A. प्रकाश विद्युत धारा, प्रकाश की तीव्रता पर निर्भर करती है।
 B. निरोधी विभव, उत्सर्जित इलेक्ट्रॉनों की अधिकतम गतिज ऊर्जा से संबंधित है जो कि आपतित विकिरण की तीव्रता पर निर्भर करता है।
 C. किसी धातु की सतह (धातु-पृष्ठ) से उत्सर्जित प्रकाश- विद्युत उत्सर्जित इलेक्ट्रॉन द्वारा एक फोटॉन के अवशोषण के कारण होता है।
 D. प्रकाश- विद्युत प्रभाव ऊर्जा-संरक्षण के नियम का अनुपालन करता है।

नीचे दिए गए विकल्पों में से सही उत्तर का चयन कीजिए:

1. केवल A, B और C
 2. केवल B, C और D
 3. केवल A, C और D
 4. केवल A, B और D

Options :

485584157997. 1
 485584157998. 2
 485584157999. 3
 485584158000. 4

Question Number : 1006 Question Id : 48558439501 Question Type : MCQ Option Shuffling : No Is Question Mandatory : No Calculator : None
 Response Time : N.A Think Time : N.A Minimum Instruction Time : 0

Correct Marks : 5 Wrong Marks : 1

Question Key Details :

Key	Value
Comprehension	MCQ

What will be the energy released in the fusion process of two lighter nuclei of masses m_1 and m_2 into a nucleus of mass M ?

1. $[(m_1 + m_2) - M] c^2$
 2. $[M - (m_1 + m_2)] c^2$
 3. $[(M - m_1) + m_2] c^2$
 4. $[M + (m_1 - m_2)] c^2$

Options :

485584158001. 1
 485584158002. 2
 485584158003. 3
 485584158004. 4

Question Number : 1006 Question Id : 48558439501 Question Type : MCQ Option Shuffling : No Is Question Mandatory : No Calculator : None
Response Time : N.A Think Time : N.A Minimum Instruction Time : 0

Correct Marks : 5 Wrong Marks : 1

Question Key Details :

Key	Value
Comprehension	MCQ

m_1 और m_2 द्रव्यमान वाले दो हल्के नाभिकों का संलयन क्रिया द्वारा M द्रव्यमान के नाभिक में परिवर्तन करने पर निर्मुक्त ऊर्जा क्या होगी?

1. $[(m_1 + m_2) - M] c^2$
2. $[M - (m_1 + m_2)] c^2$
3. $[(M - m_1) + m_2] c^2$
4. $[M + (m_1 - m_2)] c^2$

Options :

485584158001. 1

485584158002. 2

485584158003. 3

485584158004. 4

Question Number : 1007 Question Id : 48558439502 Question Type : MCQ Option Shuffling : No Is Question Mandatory : No Calculator : None
Response Time : N.A Think Time : N.A Minimum Instruction Time : 0

Correct Marks : 5 Wrong Marks : 1

Question Key Details :

Key	Value
Comprehension	MCQ

Select the correct statement for nuclear force :

1. strong, short range and charge independent
2. attractive, long range and charge independent
3. strong, attractive and charge dependent
4. strong, short range and repulsive

Options :

485584158005. 1

485584158006. 2

485584158007. 3

485584158008. 4

Question Number : 1007 Question Id : 48558439502 Question Type : MCQ Option Shuffling : No Is Question Mandatory : No Calculator : None
Response Time : N.A Think Time : N.A Minimum Instruction Time : 0

Correct Marks : 5 Wrong Marks : 1

Question Key Details :

Key	Value
Comprehension	MCQ

नाभिकीय बल के लिए सही कथन का चयन कीजिए:

1. प्रबल, लघु परास और आवेश पर निर्भर नहीं करता
2. आर्कषक, दीर्घ परास और आवेश पर निर्भर नहीं करता
3. प्रबल, आर्कषक और आवेश पर निर्भर
4. प्रबल, लघु परास और प्रतिकर्षक

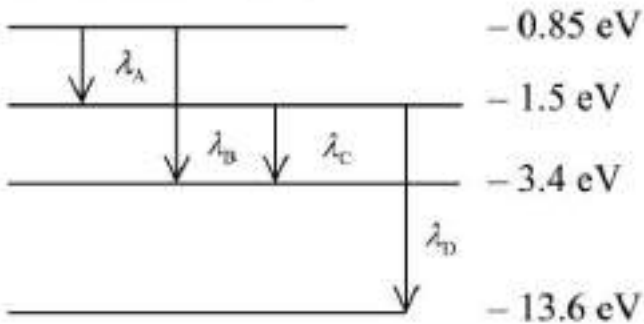
Options :

485584158005. 1
 485584158006. 2
 485584158007. 3
 485584158008. 4

Question Number : 1008 Question Id : 48558439503 Question Type : MCQ Option Shuffling : No Is Question Mandatory : No Calculator : None
 Response Time : N.A Think Time : N.A Minimum Instruction Time : 0
 Correct Marks : 5 Wrong Marks : 1
 Question Key Details :

Key	Value
Comprehension	MCQ

The energy diagram of hydrogen atom is given below. Arrange the wavelengths corresponding to different emissions in increasing order.



1. $\lambda_D > \lambda_B > \lambda_A > \lambda_C$
2. $\lambda_D > \lambda_C > \lambda_B > \lambda_A$
3. $\lambda_A > \lambda_C > \lambda_B > \lambda_D$
4. $\lambda_A > \lambda_B > \lambda_C > \lambda_D$

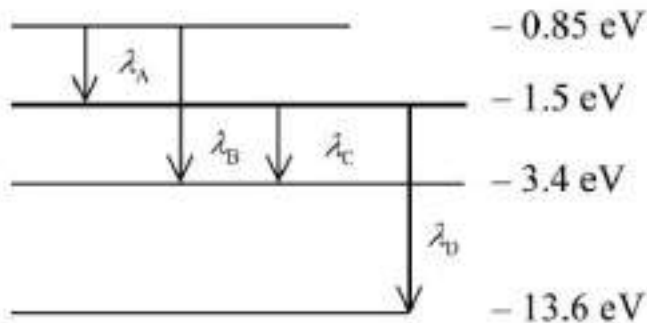
Options :

485584158009. 1
 485584158010. 2
 485584158011. 3
 485584158012. 4

Question Number : 1008 Question Id : 48558439503 Question Type : MCQ Option Shuffling : No Is Question Mandatory : No Calculator : None
 Response Time : N.A Think Time : N.A Minimum Instruction Time : 0
 Correct Marks : 5 Wrong Marks : 1
 Question Key Details :

Key	Value
Comprehension	MCQ

हाइड्रोजन परमाणु का ऊर्जा अरिख नीचे दिया गया है. विभिन्न उत्सर्जन को उनके तरंगदैर्घ्य के बढ़ते क्रम में व्यवस्थित करें:



1. $\lambda_D > \lambda_B > \lambda_A > \lambda_C$
2. $\lambda_D > \lambda_C > \lambda_B > \lambda_A$
3. $\lambda_A > \lambda_C > \lambda_B > \lambda_D$
4. $\lambda_A > \lambda_B > \lambda_C > \lambda_D$

Options :

485584158009. 1
 485584158010. 2
 485584158011. 3
 485584158012. 4

Question Number : 1009 Question Id : 48558439504 Question Type : MCQ Option Shuffling : No Is Question Mandatory : No Calculator : None Response Time : N.A Think Time : N.A Minimum Instruction Time : 0

Correct Marks : 5 Wrong Marks : 1

Question Key Details :

Key	Value
Comprehension	MCQ

Match List I with List II

LIST I		LIST II	
A.	${}_{86}^{222}\text{Rn} \longrightarrow {}_{84}^{218}\text{Po}$	I.	β^+ particle
B.	${}_{83}^{214}\text{Bi} \longrightarrow {}_{84}^{214}\text{Po}$	II.	β^- particle
C.	${}_{90}^{234}\text{Th} \longrightarrow {}_{92}^{234}\text{U}$	III.	α particle
D.	${}_{11}^{23}\text{Na} \longrightarrow {}_{10}^{23}\text{Na}$	IV.	$2\beta^-$ particle

Choose the correct answer from the options given below:

1. A-II, B-I, C-IV, D-III
2. A-III, B-II, C-IV, D-I
3. A-III, B-I, C-IV, D-II
4. A-I, B-II, C-III, D-IV

Options :

485584158013. 1
 485584158014. 2
 485584158015. 3
 485584158016. 4

Question Number : 1009 Question Id : 48558439504 Question Type : MCQ Option Shuffling : No Is Question Mandatory : No Calculator : None
 Response Time : N.A Think Time : N.A Minimum Instruction Time : 0
 Correct Marks : 5 Wrong Marks : 1

Question Key Details :

Key	Value
Comprehension	MCQ

सूची I का सूची II से मिलान कीजिए

सूची I		सूची II	
A.	${}_{86}^{222}\text{Rn} \longrightarrow {}_{84}^{218}\text{Po}$	I.	β^- कण
B.	${}_{83}^{214}\text{Bi} \longrightarrow {}_{84}^{214}\text{Po}$	II.	β^- कण
C.	${}_{90}^{234}\text{Th} \longrightarrow {}_{92}^{234}\text{U}$	III.	α कण
D.	${}_{11}^{22}\text{Na} \longrightarrow {}_{10}^{22}\text{Na}$	IV.	$2\beta^-$ कण

निम्नलिखित विकल्पों में से सही उत्तर का चयन कीजिए :

1. A-II, B-I, C-IV, D-III
2. A-III, B-II, C-IV, D-I
3. A-III, B-I, C-IV, D-II
4. A-I, B-II, C-III, D-IV

Options :

485584158013. 1
 485584158014. 2
 485584158015. 3
 485584158016. 4

Question Number : 1010 Question Id : 48558439505 Question Type : MCQ Option Shuffling : No Is Question Mandatory : No Calculator : None
 Response Time : N.A Think Time : N.A Minimum Instruction Time : 0
 Correct Marks : 5 Wrong Marks : 1

Question Key Details :

Key	Value
Comprehension	MCQ

Which of the following statements is NOT correct:

1. Pure silicon doped with a trivalent impurity gives a p-type semiconduction.
2. Majority carriers in an n-type semiconductor are holes.
3. Minority carriers in a p-type semiconductor are electrons.
4. The resistivity of an intrinsic semiconductor decreases with increase of temperature.

Options :

485584158017. 1
 485584158018. 2
 485584158019. 3
 485584158020. 4

Question Number : 1010 Question Id : 48558439505 Question Type : MCQ Option Shuffling : No Is Question Mandatory : No Calculator : None
 Response Time : N.A Think Time : N.A Minimum Instruction Time : 0
 Correct Marks : 5 Wrong Marks : 1

Question Key Details :

Key	Value
Comprehension	MCQ

निम्नलिखित कथनों में कौन-सा कथन असत्य है।

1. शुद्ध सिलिकन त्रिसंयोजी अशुद्धि के साथ अपमिश्रित होकर p-प्रकार की अर्ध चालकता देता है।
2. n-प्रकार के अर्धचालक में बहुसंख्यक वाहक होल हैं।
3. p-प्रकार के अर्धचालक में बहुसंख्यक वाहक इलेक्ट्रॉन होते हैं।
4. नैज अर्धचालक की प्रतिरोधकता ताप बढ़ाने पर घटती है।

Options :

485584158017. 1

485584158018. 2

485584158019. 3

485584158020. 4

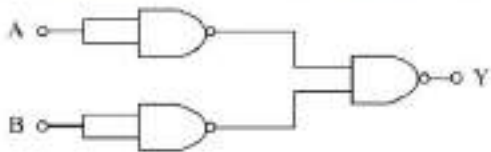
Question Number : 1011 Question Id : 48558439506 Question Type : MCQ Option Shuffling : No Is Question Mandatory : No Calculator : None Response Time : N.A Think Time : N.A Minimum Instruction Time : 0

Correct Marks : 5 Wrong Marks : 1

Question Key Details :

Key	Value
Comprehension	MCQ

Identify the logic operation carried out by the following circuit.



1. AND
2. NAND
3. NOT
4. OR

Options :

485584158021. 1

485584158022. 2

485584158023. 3

485584158024. 4

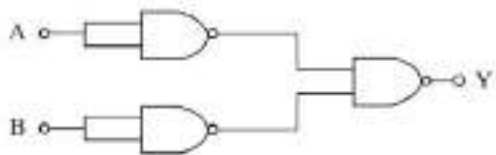
Question Number : 1011 Question Id : 48558439506 Question Type : MCQ Option Shuffling : No Is Question Mandatory : No Calculator : None Response Time : N.A Think Time : N.A Minimum Instruction Time : 0

Correct Marks : 5 Wrong Marks : 1

Question Key Details :

Key	Value
Comprehension	MCQ

निम्नलिखित परिपथ में लॉजिक कार्यविधि को पहचानिए।



1. AND
2. NAND
3. NOT
4. OR

Options :

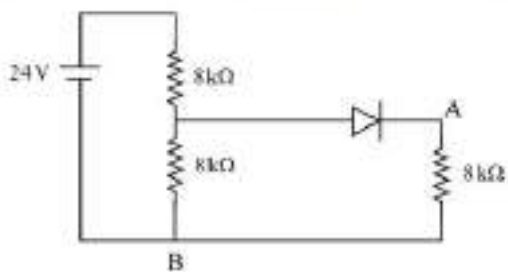
- 485584158021. 1
- 485584158022. 2
- 485584158023. 3
- 485584158024. 4

Question Number : 1012 Question Id : 48558439507 Question Type : MCQ Option Shuffling : No Is Question Mandatory : No Calculator : None Response Time : N.A Think Time : N.A Minimum Instruction Time : 0 Correct Marks : 5 Wrong Marks : 1

Question Key Details :

Key	Value
Comprehension	MCQ

In the figure potential difference between A and B is:



1. 0 V
2. 2 V
3. 4 V
4. 8 V

Options :

- 485584158025. 1
- 485584158026. 2
- 485584158027. 3
- 485584158028. 4

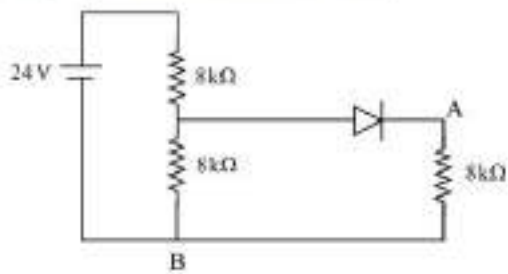
Question Number : 1012 Question Id : 48558439507 Question Type : MCQ Option Shuffling : No Is Question Mandatory : No Calculator : None Response Time : N.A Think Time : N.A Minimum Instruction Time : 0

Correct Marks : 5 Wrong Marks : 1

Question Key Details :

Key	Value
Comprehension	MCQ

दिए गए चित्र में A और B के बीच विभव है:



1. 0 V
2. 2 V
3. 4 V
4. 8 V

Options :

485584158025. 1
 485584158026. 2
 485584158027. 3
 485584158028. 4

Question Number : 1013 Question Id : 48558439508 Question Type : MCQ Option Shuffling : No Is Question Mandatory : No Calculator : None
 Response Time : N.A Think Time : N.A Minimum Instruction Time : 0
 Correct Marks : 5 Wrong Marks : 1

Question Key Details :

Key	Value
Comprehension	MCQ

Match List I with List II

LIST I		LIST II	
A.	Zener Diode	I.	Detect optical signals
B.	LED	II.	Voltage Regulator
C.	Rectifier	III.	Remote Control
D.	Photo diode	IV.	AC to DC

Choose the correct answer from the options given below:

1. A-I, B-II, C-III, D-IV
2. A-II, B-IV, C-I, D-III
3. A-III, B-II, C-IV, D-I
4. A-II, B-III, C-IV, D-I

Options :

485584158029. 1
 485584158030. 2
 485584158031. 3
 485584158032. 4

Question Number : 1013 Question Id : 48558439508 Question Type : MCQ Option Shuffling : No Is Question Mandatory : No Calculator : None
 Response Time : N.A Think Time : N.A Minimum Instruction Time : 0
 Correct Marks : 5 Wrong Marks : 1

Question Key Details :

Key	Value
Comprehension	MCQ

सूची I का सूची II से मिलान कीजिए

सूची I		सूची II	
A.	जेनर डायोड	I.	प्रकाशीय संकेतों का संसूचन करना
B.	LED	II.	वोल्टता नियमक
C.	दिष्टकारी	III.	दूर नियंत्रक
D.	प्रकाश डायोड	IV.	प्रत्यावर्ती धारा से दिष्ट धारा में

निम्नलिखित विकल्पों में से सही उत्तर का चयन कीजिए :

1. A-I, B-II, C-III, D-IV
2. A-II, B-IV, C-I, D-III
3. A-III, B-II, C-IV, D-I
4. A-II, B-III, C-IV, D-I

Options :

485584158029. 1
485584158030. 2
485584158031. 3
485584158032. 4

Question Number : 1014 Question Id : 48558439509 Question Type : MCQ Option Shuffling : No Is Question Mandatory : No Calculator : None Response Time : N.A Think Time : N.A Minimum Instruction Time : 0

Correct Marks : 5 Wrong Marks : 1

Question Key Details :

Key	Value
Comprehension	MCQ

The height of a TV tower is 180 m. To what distance the transmission can be made from this tower, if the radius of earth is 6.4×10^6 m?

1. 18 km
2. 90 km
3. 48 km
4. 64 km

Options :

485584158033. 1
485584158034. 2
485584158035. 3
485584158036. 4

Question Number : 1014 Question Id : 48558439509 Question Type : MCQ Option Shuffling : No Is Question Mandatory : No Calculator : None Response Time : N.A Think Time : N.A Minimum Instruction Time : 0

Correct Marks : 5 Wrong Marks : 1

Question Key Details :

Key	Value
Comprehension	MCQ

एक टी.वी.टावर की ऊँचाई 180 m। यदि पृथ्वी की त्रिज्या 6.4×10^6 m है तो इस टावर द्वारा संचरण कितनी दूरी तक होंगे?

1. 18 km
2. 90 km
3. 48 km
4. 64 km

Options :

485584158033. 1
 485584158034. 2
 485584158035. 3
 485584158036. 4

Question Number : 1015 Question Id : 48558439510 Question Type : MCQ Option Shuffling : No Is Question Mandatory : No Calculator : None Response Time : N.A Think Time : N.A Minimum Instruction Time : 0

Correct Marks : 5 Wrong Marks : 1

Question Key Details :

Key	Value
Comprehension	MCQ

Match List I with List II

LIST I		LIST II	
A.	Modulation	I.	Retrieval of information from the carrier wave at the receiver
B.	Baseband signals	II.	Frequency range over which an equipment operates
C.	Demodulation	III.	Superimposition of a signal on a high frequency wave
D.	Bandwidth	IV.	Band of frequencies representing the original signal

Choose the correct answer from the options given below:

1. A-IV, B-III, C-II, D-I
2. A-I, B-II, C-III, D-IV
3. A-II, B-III, C-IV, D-I
4. A-III, B-IV, C-I, D-II

Options :

485584158037. 1
 485584158038. 2
 485584158039. 3
 485584158040. 4

Question Number : 1015 Question Id : 48558439510 Question Type : MCQ Option Shuffling : No Is Question Mandatory : No Calculator : None Response Time : N.A Think Time : N.A Minimum Instruction Time : 0

Correct Marks : 5 Wrong Marks : 1

Question Key Details :

Key	Value
Comprehension	MCQ

सूची I का सूची II से मिलान कीजिए

सूची I		सूची II	
A.	मोड्युलीकरण	I.	ग्राही पर वाहक तरंगों से सूचना की प्राप्ति
B.	ब्रेसबैंड सिग्नल	II.	आवृत्ति परास जिसपर कोई उपकरण कार्य करता है
C.	विमोड्युलीकरण	III.	अधिक आवृत्ति तरंग पर संकेत का अध्यारोपण
D.	बैंड चौड़ाई	IV.	आरंभिक संकेतों का आवृत्तियों के बैंड द्वारा निरूपण

निम्नलिखित विकल्पों में से सही उत्तर का चयन कीजिए :

1. A-IV, B-III, C-II, D-I
2. A-I, B-II, C-III, D-IV
3. A-II, B-III, C-IV, D-I
4. A-III, B-IV, C-I, D-II

Options :

485584158037. 1
485584158038. 2
485584158039. 3
485584158040. 4

Question Number : 1016 Question Id : 48558439511 Question Type : MCQ Option Shuffling : No Is Question Mandatory : No Calculator : None
Response Time : N.A Think Time : N.A Minimum Instruction Time : 0
Correct Marks : 5 Wrong Marks : 1

Question Key Details :

Key	Value
Comprehension	MCQ

Two point charges q and $-3q$ are kept 12 cm apart. The distance of the point from q on the line between two charges at which potential due to this system of charges is zero will be :

1. 6 cm
2. 4 cm
3. 3 cm
4. 2 cm

Options :

485584158041. 1
485584158042. 2
485584158043. 3
485584158044. 4

Question Number : 1016 Question Id : 48558439511 Question Type : MCQ Option Shuffling : No Is Question Mandatory : No Calculator : None
Response Time : N.A Think Time : N.A Minimum Instruction Time : 0
Correct Marks : 5 Wrong Marks : 1

Question Key Details :

Key	Value
Comprehension	MCQ

दो बिन्दु आवेश q और $-3q$ एक दूसरे से 12 cm की दूरी पर रखे गए। दोनों आवेशों को जोड़ने वाली रेखा पर आवेश q से दूरी क्या होगी, जहाँ इन आवेश तंत्र के कारण विभव शून्य होगा :

1. 6 cm
2. 4 cm
3. 3 cm
4. 2 cm

Options :

485584158041. 1
485584158042. 2
485584158043. 3
485584158044. 4

Question Number : 1017 Question Id : 48558439512 Question Type : MCQ Option Shuffling : No Is Question Mandatory : No Calculator : None Response Time : N.A Think Time : N.A Minimum Instruction Time : 0

Correct Marks : 5 Wrong Marks : 1

Question Key Details :

Key	Value
Comprehension	MCQ

Mobility of electrons

- A. decreases with increase in potential difference
- B. increases with increase in potential difference
- C. does not depend on potential difference
- D. decreases with decrease in temperature of conductor
- E. independent to the temperature of conductor

Choose the correct answer from the options given below:

1. A and E only
2. B and E only
3. C and D only
4. C and E only

Options :

485584158045. 1
485584158046. 2
485584158047. 3
485584158048. 4

Question Number : 1017 Question Id : 48558439512 Question Type : MCQ Option Shuffling : No Is Question Mandatory : No Calculator : None Response Time : N.A Think Time : N.A Minimum Instruction Time : 0

Correct Marks : 5 Wrong Marks : 1

Question Key Details :

Key	Value
Comprehension	MCQ

इलेक्ट्रॉन की गतिशीलता

- A. विभवान्तर के बढ़ने से कम होती है।
- B. विभवान्तर के बढ़ने से अधिक होती है।
- C. विभवान्तर पर निर्भर नहीं करती।
- D. चालक का ताप घटने पर कम होती है।
- E. चालक के ताप पर निर्भर नहीं करता।

नीचे दिए गए विकल्पों में से सही उत्तर का चयन कीजिए:

- 1. केवल A और E
- 2. केवल B और E
- 3. केवल C और D
- 4. केवल C और E

Options :

- 485584158045. 1
- 485584158046. 2
- 485584158047. 3
- 485584158048. 4

Question Number : 1018 Question Id : 48558439513 Question Type : MCQ Option Shuffling : No Is Question Mandatory : No Calculator : None Response Time : N.A Think Time : N.A Minimum Instruction Time : 0

Correct Marks : 5 Wrong Marks : 1

Question Key Details :

Key	Value
Comprehension	MCQ

The displacement current due to time varying electric field is given by

- 1. $\mu_0 \frac{d\phi_E}{dt}$
- 2. $\epsilon_0 \frac{d\phi_E}{dt}$
- 3. $\mu_0 \epsilon_0 \frac{d\phi_E}{dt}$
- 4. $\frac{d\phi_E}{dt}$

Options :

- 485584158049. 1
- 485584158050. 2
- 485584158051. 3
- 485584158052. 4

Question Number : 1018 Question Id : 48558439513 Question Type : MCQ Option Shuffling : No Is Question Mandatory : No Calculator : None Response Time : N.A Think Time : N.A Minimum Instruction Time : 0

Correct Marks : 5 Wrong Marks : 1

Question Key Details :

Key	Value
Comprehension	MCQ

समय के साथ विद्युतक्षेत्र में परिवर्तन के कारण विस्थापन धारा होती है।

1. $\mu_0 \frac{d\phi_E}{dt}$

2. $\epsilon_0 \frac{d\phi_E}{dt}$

3. $\mu_0 \epsilon_0 \frac{d\phi_E}{dt}$

4. $\frac{d\phi_E}{dt}$

Options :

485584158049. 1

485584158050. 2

485584158051. 3

485584158052. 4

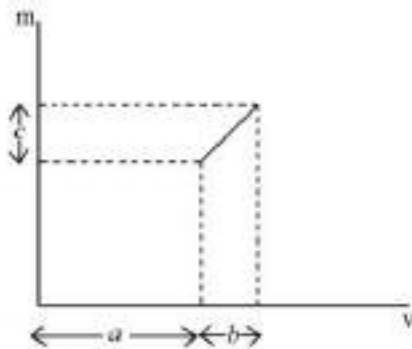
Question Number : 1019 Question Id : 48558439514 Question Type : MCQ Option Shuffling : No Is Question Mandatory : No Calculator : None Response Time : N.A Think Time : N.A Minimum Instruction Time : 0

Correct Marks : 5 Wrong Marks : 1

Question Key Details :

Key	Value
Comprehension	MCQ

The graph shows the variation of the magnification (m) produced by a thin lens with image distance (v). The focal length of the lens is :



1. $\frac{b^2}{ae}$

2. $\frac{b^2c}{a}$

3. $\frac{a}{c}$

4. $\frac{b}{c}$

Options :

485584158053. 1

485584158054. 2

485584158055. 3

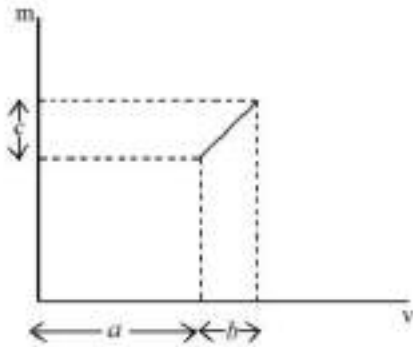
Question Number : 1019 Question Id : 48558439514 Question Type : MCQ Option Shuffling : No Is Question Mandatory : No Calculator : None
 Response Time : N.A Think Time : N.A Minimum Instruction Time : 0

Correct Marks : 5 Wrong Marks : 1

Question Key Details :

Key	Value
Comprehension	MCQ

एक पतले लेंस द्वारा संवर्धन (m) में प्रतिबिंब दूरी (v) के साथ परिवर्तन ग्राफ द्वारा दर्शाया गया है। लेंस की फोकस दूरी है:



1. $\frac{b^2}{ac}$

2. $\frac{b^2c}{a}$

3. $\frac{a}{c}$

4. $\frac{b}{c}$

Options :

485584158053. 1

485584158054. 2

485584158055. 3

485584158056. 4

Question Number : 1020 Question Id : 48558439515 Question Type : MCQ Option Shuffling : No Is Question Mandatory : No Calculator : None
 Response Time : N.A Think Time : N.A Minimum Instruction Time : 0

Correct Marks : 5 Wrong Marks : 1

Question Key Details :

Key	Value
Comprehension	MCQ

Match List I with List II using Bohr's atomic model:

LIST I		LIST II	
A.	Radius of electron orbit	I.	directly proportional to ' n^2 '
B.	Angular momentum of electron	II.	directly proportional to ' n '
C.	Velocity of electron	III.	inversely proportional to ' n '
D.	Energy of electron	IV.	inversely proportional to ' n^2 '

Choose the correct answer from the options given below:

1. A-I, B-II, C-III, D-IV
2. A-II, B-I, C-III, D-IV
3. A-I, B-II, C-IV, D-III
4. A-IV, B-III, C-II, D-I

Options :

485584158057. 1
485584158058. 2
485584158059. 3
485584158060. 4

Question Number : 1020 Question Id : 48558439515 Question Type : MCQ Option Shuffling : No Is Question Mandatory : No Calculator : None
Response Time : N.A Think Time : N.A Minimum Instruction Time : 0
Correct Marks : 5 Wrong Marks : 1

Question Key Details :

Key	Value
Comprehension	MCQ

बोहर परमाणविक मॉडल को प्रयोग में लाते हुए सूची I का सूची II से मिलान कीजिए

सूची I		सूची II	
A.	इलेक्ट्रॉन कक्षा की त्रिज्या	I.	n^2 के अनुक्रमानुपाती
B.	इलेक्ट्रॉन का कोणीय संवेग	II.	n के अनुक्रमानुपाती
C.	इलेक्ट्रॉन का वेग	III.	n के व्युत्क्रमानुपाती
D.	इलेक्ट्रॉन का ऊर्जा	IV.	n^2 के व्युत्क्रमानुपाती

निम्नलिखित विकल्पों में से सही उत्तर का चयन कीजिए :

1. A-I, B-II, C-III, D-IV
2. A-II, B-I, C-III, D-IV
3. A-I, B-II, C-IV, D-III
4. A-IV, B-III, C-II, D-I

Options :

485584158057. 1
485584158058. 2
485584158059. 3
485584158060. 4

Political Science

Group Number :

21

Group Id :

485584902

Group Maximum Duration :

45

Group Minimum Duration : 45
Show Attended Group? : No
Edit Attended Group? : No
Break time : 0
Group Marks : 200
Is this Group for Examiner? : No
Examiner permission : Cant View
Show Progress Bar? : No

Political Science

Section Id : 4855841046
Section Number : 1
Section type : Online
Mandatory or Optional : Mandatory
Number of Questions : 50
Number of Questions to be attempted : 40
Section Marks : 200
Enable Mark as Answered Mark for Review and Clear Response : Yes
Maximum Instruction Time : 0
Sub-Section Number : 1
Sub-Section Id : 4855842958
Question Shuffling Allowed : Yes
Is Section Default? : null

Question Number : 1021 Question Id : 48558438931 Question Type : MCQ Option Shuffling : No Is Question Mandatory : No Calculator : None
Response Time : N.A Think Time : N.A Minimum Instruction Time : 0
Correct Marks : 5 Wrong Marks : 1

Question Key Details :

Key	Value
Comprehension	MCQ

Swatantra Party was not against :

1. Land ceiling in agriculture
2. Cooperative farming
3. Free private sector
4. Progressive tax regime

Options :

485584155721. 1
485584155722. 2
485584155723. 3
485584155724. 4

Question Number : 1021 Question Id : 48558438931 Question Type : MCQ Option Shuffling : No Is Question Mandatory : No Calculator : None
Response Time : N.A Think Time : N.A Minimum Instruction Time : 0

Correct Marks : 5 Wrong Marks : 1

Question Key Details :

Key	Value
Comprehension	MCQ

स्वतंत्र पार्टी _____ विरुद्ध नहीं थी

1. कृषि में भूमि की हदबंदी
2. सहकारी खेती
3. मुफ्त प्राइवेट सेक्टर
4. प्रगतिशील कर व्यवस्था

Options :

485584155721. 1
485584155722. 2
485584155723. 3
485584155724. 4

Question Number : 1022 Question Id : 48558438932 Question Type : MCQ Option Shuffling : No Is Question Mandatory : No Calculator : None Response Time : N.A Think Time : N.A Minimum Instruction Time : 0

Correct Marks : 5 Wrong Marks : 1

Question Key Details :

Key	Value
Comprehension	MCQ

Which general elections brought in the phenomenon of first coalitions government in the states

1. 1957
2. 1962
3. 1967
4. 1971

Options :

485584155725. 1
485584155726. 2
485584155727. 3
485584155728. 4

Question Number : 1022 Question Id : 48558438932 Question Type : MCQ Option Shuffling : No Is Question Mandatory : No Calculator : None Response Time : N.A Think Time : N.A Minimum Instruction Time : 0

Correct Marks : 5 Wrong Marks : 1

Question Key Details :

Key	Value
Comprehension	MCQ

किस आम चुनाव में राज्यों में प्रथम गठबंधन सरकार की परिघटना को लाया गया ?

1. 1957
2. 1962
3. 1967
4. 1971

Options :

485584155725. 1
485584155726. 2
485584155727. 3
485584155728. 4

Question Number : 1023 Question Id : 48558438933 Question Type : MCQ Option Shuffling : No Is Question Mandatory : No Calculator : None
Response Time : N.A Think Time : N.A Minimum Instruction Time : 0

Correct Marks : 5 Wrong Marks : 1

Question Key Details :

Key	Value
Comprehension	MCQ

Match List I with List II

LIST I		LIST II	
A.	State reorganisation Act passed	I.	1972
B.	Meghalaya carved out of Assam	II.	2000
C.	Chhattisgarh, Uttarakhand and Jharkhand created	III.	1960
D.	Maharashtra and Gujrat were created	IV.	1956

Choose the correct answer from the options given below:

1. A-I, B-II, C-III, D-IV
2. A-IV, B-I, C-II, D-III
3. A-II, B-III, C-IV, D-I
4. A-III, B-I, C-II, D-IV

Options :

485584155729. 1
485584155730. 2
485584155731. 3
485584155732. 4

Question Number : 1023 Question Id : 48558438933 Question Type : MCQ Option Shuffling : No Is Question Mandatory : No Calculator : None
Response Time : N.A Think Time : N.A Minimum Instruction Time : 0

Correct Marks : 5 Wrong Marks : 1

Question Key Details :

Key	Value
Comprehension	MCQ

सूची I का सूची II के साथ मिलान कीजिए :

सूची I		सूची II	
A.	राज्य पुनर्गठन अधिनियम	I.	1972
B.	मेघालय को आसाम से पृथक किया गया	II.	2000
C.	छत्तीसगढ़, उत्तराखंड तथा झारखण्ड का निर्माण हुआ	III.	1960
D.	महाराष्ट्र तथा गुजरात बने	IV.	1956

निम्नलिखित विकल्पों में सही उत्तर का चयन कीजिए :

1. A-I, B-II, C-III, D-IV
2. A-IV, B-I, C-II, D-III
3. A-II, B-III, C-IV, D-I
4. A-III, B-I, C-II, D-IV

Options :

485584155729. 1
485584155730. 2
485584155731. 3

485584155732. 4

Question Number : 1024 Question Id : 48558438934 Question Type : MCQ Option Shuffling : No Is Question Mandatory : No Calculator : None
Response Time : N.A Think Time : N.A Minimum Instruction Time : 0
Correct Marks : 5 Wrong Marks : 1

Question Key Details :

Key	Value
Comprehension	MCQ

Nehru was our first Prime Minister as well as

- A. Health Minister
- B. Foreign Minister
- C. Education Minister
- D. Finance Minister

Choose the correct answer from the options given below:

- 1. A only
- 2. A and D only
- 3. B only
- 4. A and C only

Options :

- 485584155733. 1
- 485584155734. 2
- 485584155735. 3
- 485584155736. 4

Question Number : 1024 Question Id : 48558438934 Question Type : MCQ Option Shuffling : No Is Question Mandatory : No Calculator : None
Response Time : N.A Think Time : N.A Minimum Instruction Time : 0
Correct Marks : 5 Wrong Marks : 1

Question Key Details :

Key	Value
Comprehension	MCQ

नेहरू हमारे प्रथम प्रधानमंत्री थे तथा साथ में _____ भी थे

- A. स्वास्थ्य मंत्री
- B. विदेश मंत्री
- C. शिक्षा मंत्री
- D. वित्त मंत्री

निम्नलिखित विकल्पों में सही उत्तर का चयन कीजिए :

- 1. केवल A
- 2. केवल A और D
- 3. केवल B
- 4. केवल A और C

Options :

- 485584155733. 1
- 485584155734. 2
- 485584155735. 3
- 485584155736. 4

Question Number : 1025 Question Id : 48558438935 Question Type : MCQ Option Shuffling : No Is Question Mandatory : No Calculator : None
Response Time : N.A Think Time : N.A Minimum Instruction Time : 0

Correct Marks : 5 Wrong Marks : 1

Question Key Details :

Key	Value
Comprehension	MCQ

Which of the following statements is/are incorrect :

- A. The planning commission was set up in 1950.
- B. The first five year plan focused mainly on agriculture including investment in dams and irrigation.
- C. India was technologically very advance at the time of independence.
- D. The second five year plan focused on development of Industries.
- E. The development was completely left to the private sectors.

Choose the correct answer from the options given below:

- 1. A, B and E only
- 2. C and E only
- 3. D, E and C only
- 4. A and C only

Options :

- 485584155737. 1
- 485584155738. 2
- 485584155739. 3
- 485584155740. 4

Question Number : 1025 Question Id : 48558438935 Question Type : MCQ Option Shuffling : No Is Question Mandatory : No Calculator : None
Response Time : N.A Think Time : N.A Minimum Instruction Time : 0

Correct Marks : 5 Wrong Marks : 1

Question Key Details :

Key	Value
Comprehension	MCQ

निम्नांकित में से कौन-से कथन सत्य है ?

- A. योजना आयोग की स्थापना 1950 में हुई थी।
- B. प्रथम पंचवर्षीय योजना में बांध तथा सिंचाई के क्षेत्र में निवेश सहित कृषि पर जोर दिया गया
- C. स्वतंत्रता प्राप्ति के समय भारत प्रौद्योगिकी में अत्याधिक विकसित था
- D. द्वितीय पंचवर्षीय में औद्योगिक विकास पर बल दिया गया
- E. विकास पुर्न रूप से प्राइवेट सेक्टर पर निर्भर कर दिया

निम्नलिखित विकल्पों में सही उत्तर का चयन कीजिए :

- 1. केवल A, B और E
- 2. केवल C और E
- 3. केवल D, E और C
- 4. केवल A और C

Options :

- 485584155737. 1
- 485584155738. 2
- 485584155739. 3
- 485584155740. 4

Question Number : 1026 Question Id : 48558438936 Question Type : MCQ Option Shuffling : No Is Question Mandatory : No Calculator : None
Response Time : N.A Think Time : N.A Minimum Instruction Time : 0

Correct Marks : 5 Wrong Marks : 1

Question Key Details :

Key	Value
Comprehension	MCQ

Match List I with List II

LIST I		LIST II	
A.	Shah Commission of Inquiry	I.	May, 1977
B.	Lok Sabha Elections	II.	January, 1977
C.	Emergency	III.	June, 1975
D.	Railway Strike	IV.	May, 1974

Choose the correct answer from the options given below:

1. A-I, B-II, C-III, D-IV
2. A-II, B-III, C-IV, D-I
3. A-III, B-IV, C-I, D-II
4. A-IV, B-III, C-II, D-I

Options :

485584155741. 1

485584155742. 2

485584155743. 3

485584155744. 4

Question Number : 1026 Question Id : 48558438936 Question Type : MCQ Option Shuffling : No Is Question Mandatory : No Calculator : None
Response Time : N.A Think Time : N.A Minimum Instruction Time : 0

Correct Marks : 5 Wrong Marks : 1

Question Key Details :

Key	Value
Comprehension	MCQ

सूची I का सूची II से मिलान कीजिए

सूची I		सूची II	
A.	शाह आयोग की जांच	I.	मई 1977
B.	लोक सभा चुनाव	II.	जनवरी 1977
C.	आपातकाल	III.	जून 1975
D.	रेलवे हड़ताल	IV.	मई 1974

निम्नलिखित विकल्पों में से सही उत्तर का चयन कीजिए :

1. A-I, B-II, C-III, D-IV
2. A-II, B-III, C-IV, D-I
3. A-III, B-IV, C-I, D-II
4. A-IV, B-III, C-II, D-I

Options :

485584155741. 1

485584155742. 2

485584155743. 3

485584155744. 4

Question Number : 1027 Question Id : 48558438937 Question Type : MCQ Option Shuffling : No Is Question Mandatory : No Calculator : None
Response Time : N.A Think Time : N.A Minimum Instruction Time : 0
Correct Marks : 5 Wrong Marks : 1

Question Key Details :

Key	Value
Comprehension	MCQ

In which year, the employees of the Railways went on a strike against government for their demands related to Bonus and Service conditions.

1. June 1974
2. May 1976
3. July 1974
4. May 1974

Options :

- 485584155745. 1
- 485584155746. 2
- 485584155747. 3
- 485584155748. 4

Question Number : 1027 Question Id : 48558438937 Question Type : MCQ Option Shuffling : No Is Question Mandatory : No Calculator : None
Response Time : N.A Think Time : N.A Minimum Instruction Time : 0
Correct Marks : 5 Wrong Marks : 1

Question Key Details :

Key	Value
Comprehension	MCQ

किस वर्ष में रेलवे के कर्मचारियों ने बोनस तथा उनकी सेवाओं की शर्तों के संबंध में सरकार के विरुद्ध हड़ताल की ?

1. जून 1974
2. मई 1976
3. जुलाई 1974
4. मई 1974

Options :

- 485584155745. 1
- 485584155746. 2
- 485584155747. 3
- 485584155748. 4

Question Number : 1028 Question Id : 48558438938 Question Type : MCQ Option Shuffling : No Is Question Mandatory : No Calculator : None
Response Time : N.A Think Time : N.A Minimum Instruction Time : 0

Correct Marks : 5 Wrong Marks : 1

Question Key Details :

Key	Value
Comprehension	MCQ

Match List I with List II

LIST I		LIST II	
A.	1950	I.	The first MBA course outside US
B.	1900	II.	Japanese attack on Pearl Harbour
C.	1941	III.	The first business school in the world, Wharton school at the university of Pennsylvania
D.	1881	IV.	Internet research Project

Choose the correct answer from the options given below:

1. A-II, B-III, C-IV, D-I
2. A-III, B-IV, C-II, D-I
3. A-I, B-II, C-IV, D-III
4. A-IV, B-I, C-II, D-III

Options :

485584155749. 1
485584155750. 2
485584155751. 3
485584155752. 4

Question Number : 1028 Question Id : 48558438938 Question Type : MCQ Option Shuffling : No Is Question Mandatory : No Calculator : None Response Time : N.A Think Time : N.A Minimum Instruction Time : 0 Correct Marks : 5 Wrong Marks : 1

Question Key Details :

Key	Value
Comprehension	MCQ

सूची I का सूची II से मिलान कीजिए

सूची I		सूची II	
A.	1950	I.	यू. एस. के बाहर पहला एम. बी. ए. कोर्स
B.	1900	II.	पर्ल हार्बर पर जापान का आक्रमण
C.	1941	III.	विश्व का प्रथम व्यापार विद्यालय व्हार्टन विद्यालय जो पेन्सिल्वेनिया विश्व विद्यालय में है।
D.	1881	IV.	इंटरनेट अन्वेषण योजना

निम्नलिखित विकल्पों में से सही उत्तर का चयन कीजिए :

1. A-II, B-III, C-IV, D-I
2. A-III, B-IV, C-II, D-I
3. A-I, B-II, C-IV, D-III
4. A-IV, B-I, C-II, D-III

Options :

485584155749. 1
485584155750. 2
485584155751. 3
485584155752. 4

Question Number : 1029 Question Id : 48558438939 Question Type : MCQ Option Shuffling : No Is Question Mandatory : No Calculator : None Response Time : N.A Think Time : N.A Minimum Instruction Time : 0 Correct Marks : 5 Wrong Marks : 1

Question Key Details :

Key	Value
Comprehension	MCQ

Which one of the following statements is correct, related to the Chipko Movement?

1. It was a social movement
2. It was a Religious movement
3. It was a students' movement
4. It was an environmental movement

Options :

- 485584155753. 1
- 485584155754. 2
- 485584155755. 3
- 485584155756. 4

Question Number : 1029 Question Id : 48558438939 Question Type : MCQ Option Shuffling : No Is Question Mandatory : No Calculator : None
Response Time : N.A Think Time : N.A Minimum Instruction Time : 0

Correct Marks : 5 Wrong Marks : 1

Question Key Details :

Key	Value
Comprehension	MCQ

चिपको आंदोलन के संबंध में निम्नांकित में से कौन-सा कथन सत्य है ?

1. यह एक सामाजिक आंदोलन था।
2. यह एक धार्मिक आंदोलन था।
3. यह एक विद्यार्थी आंदोलन था।
4. यह एक पर्यावरणीय आंदोलन था।

Options :

- 485584155753. 1
- 485584155754. 2
- 485584155755. 3
- 485584155756. 4

Question Number : 1030 Question Id : 48558438940 Question Type : MCQ Option Shuffling : No Is Question Mandatory : No Calculator : None
Response Time : N.A Think Time : N.A Minimum Instruction Time : 0

Correct Marks : 5 Wrong Marks : 1

Question Key Details :

Key	Value
Comprehension	MCQ

"Sardar Sarovar Project" An ambitious developmental project was launched in the Narmada Valley of central India in early eighties. The Projects consisted of _____ big dams, _____ medium sized and around _____ small dams.

1. 30, 135, 3000
2. 50, 70, 1800
3. 80, 90, 5000
4. 20, 100, 2000

Options :

- 485584155757. 1

485584155758. 2
485584155759. 3
485584155760. 4

Question Number : 1030 Question Id : 48558438940 Question Type : MCQ Option Shuffling : No Is Question Mandatory : No Calculator : None
Response Time : N.A Think Time : N.A Minimum Instruction Time : 0
Correct Marks : 5 Wrong Marks : 1
Question Key Details :

Key	Value
Comprehension	MCQ

एक महत्वाकांक्षी विकासत्मक योजना - 'सरदार सरोवर योजना' का निर्माण नर्मदा घाटी, मध्य भारत में अस्सी के दशक के आरंभ में किया गया। इस योजना में _____ बड़े बांध, _____ मझोले तथा करीब _____ छोटे बांध सम्मिलित थे।

1. 30, 135, 3000
2. 50, 70, 1800
3. 80, 90, 5000
4. 20, 100, 2000

Options :
485584155757. 1
485584155758. 2
485584155759. 3
485584155760. 4

Question Number : 1031 Question Id : 48558438941 Question Type : MCQ Option Shuffling : No Is Question Mandatory : No Calculator : None
Response Time : N.A Think Time : N.A Minimum Instruction Time : 0
Correct Marks : 5 Wrong Marks : 1
Question Key Details :

Key	Value
Comprehension	MCQ

National Front Government came into existence in the year of _____

1. 1998
2. 1984
3. 1990
4. 1972

Options :
485584155761. 1
485584155762. 2
485584155763. 3
485584155764. 4

Question Number : 1031 Question Id : 48558438941 Question Type : MCQ Option Shuffling : No Is Question Mandatory : No Calculator : None
Response Time : N.A Think Time : N.A Minimum Instruction Time : 0
Correct Marks : 5 Wrong Marks : 1
Question Key Details :

Key	Value
Comprehension	MCQ

राष्ट्रीय मोर्चा की सरकार वर्ष _____ में अस्तित्व में आयी

1. 1998
2. 1984
3. 1990
4. 1972

Options :

485584155761. 1
485584155762. 2
485584155763. 3
485584155764. 4

Question Number : 1032 Question Id : 48558438942 Question Type : MCQ Option Shuffling : No Is Question Mandatory : No Calculator : None Response Time : N.A Think Time : N.A Minimum Instruction Time : 0

Correct Marks : 5 Wrong Marks : 1

Question Key Details :

Key	Value
Comprehension	MCQ

Match List I with List II

LIST I		LIST II	
A.	Soviet invasion of Afghanistan	I.	1979
B.	Warsaw Pact	II.	Socialist Bloc
C.	Marshall Plan	III.	US aid for reconstruction of the Western Europe
D.	Fall of Berlin Wall	IV.	1989

Choose the correct answer from the options given below:

1. A-I, B-II, C-III, D-IV
2. A-IV, B-III, C-II, D-I
3. A-III, B-IV, C-II, D-I
4. A-IV, B-III, C-II, D-I

Options :

485584155765. 1
485584155766. 2
485584155767. 3
485584155768. 4

Question Number : 1032 Question Id : 48558438942 Question Type : MCQ Option Shuffling : No Is Question Mandatory : No Calculator : None Response Time : N.A Think Time : N.A Minimum Instruction Time : 0

Correct Marks : 5 Wrong Marks : 1

Question Key Details :

Key	Value
Comprehension	MCQ

सूची I का सूची II से मिलान कीजिए

सूची I		सूची II	
A.	सोवियत का अफगानिस्तान पर आक्रमण	I.	1979
B.	वर्साय संधि	II.	समाजवादी ब्लॉक
C.	मार्शल योजना	III.	यू. एस ने पश्चिमी यूरोप के पुनर्निर्माण में सहायता की
D.	बर्लिन की दीवार का गिरना	IV.	1989

निम्नलिखित विकल्पों में से सही उत्तर का चयन कीजिए :

1. A-I, B-II, C-III, D-IV
2. A-IV, B-III, C-II, D-I
3. A-III, B-IV, C-II, D-I
4. A-IV, B-III, C-II, D-I

Options :

485584155765. 1
485584155766. 2
485584155767. 3
485584155768. 4

Question Number : 1033 Question Id : 48558438943 Question Type : MCQ Option Shuffling : No Is Question Mandatory : No Calculator : None Response Time : N.A Think Time : N.A Minimum Instruction Time : 0

Correct Marks : 5 Wrong Marks : 1

Question Key Details :

Key	Value
Comprehension	MCQ

The first non-aligned summit was held in Belgrade in 1961 was attended by _____

1. 20 Member states
2. 22 Member states
3. 24 Member states
4. 25 Member states

Options :

485584155769. 1
485584155770. 2
485584155771. 3
485584155772. 4

Question Number : 1033 Question Id : 48558438943 Question Type : MCQ Option Shuffling : No Is Question Mandatory : No Calculator : None Response Time : N.A Think Time : N.A Minimum Instruction Time : 0

Correct Marks : 5 Wrong Marks : 1

Question Key Details :

Key	Value
Comprehension	MCQ

प्रथम गुटनिरपेक्ष सम्मेलन बेलग्रेड में वर्ष 1961 में आयोजित किया गया था जिसमें _____ शामिल हुए

1. 20 सदस्य देश
2. 22 सदस्य देश
3. 24 सदस्य देश
4. 25 सदस्य देश

Options :

485584155769. 1
485584155770. 2
485584155771. 3
485584155772. 4

Question Number : 1034 Question Id : 48558438944 Question Type : MCQ Option Shuffling : No Is Question Mandatory : No Calculator : None

Response Time : N.A Think Time : N.A Minimum Instruction Time : 0

Correct Marks : 5 Wrong Marks : 1

Question Key Details :

Key	Value
Comprehension	MCQ

LIMITED TEST BAN TREATY (LTBT) banned nuclear weapon tests in the atmosphere, in outer space and under water signed by the US, UK and USSR in Moscow on _____

1. 5 August 1963
2. 5 August 1964
3. 10 October 1963
4. 10 October 1964

Options :

485584155773. 1
485584155774. 2
485584155775. 3
485584155776. 4

Question Number : 1034 Question Id : 48558438944 Question Type : MCQ Option Shuffling : No Is Question Mandatory : No Calculator : None

Response Time : N.A Think Time : N.A Minimum Instruction Time : 0

Correct Marks : 5 Wrong Marks : 1

Question Key Details :

Key	Value
Comprehension	MCQ

सीमित परमाणु परीक्षण संधि (एल. टी. बी. टी.) ने वायुमंडल, बाहरी अंतरिक्ष तथा पानी के अंदर परमाणु हथियारों के परीक्षण पर प्रतिबंध लगाया जिसे वर्ष _____ में यू. एस. यू. के. तथा यू. एस. एस. आर. मॉस्को में द्वारा हस्ताक्षरित किया गया

1. 5 अगस्त 1963
2. 5 अगस्त 1964
3. 10 अक्टूबर 1963
4. 10 अक्टूबर 1964

Options :

485584155773. 1

485584155774. 2
485584155775. 3
485584155776. 4

Question Number : 1035 Question Id : 48558438945 Question Type : MCQ Option Shuffling : No Is Question Mandatory : No Calculator : None
Response Time : N.A Think Time : N.A Minimum Instruction Time : 0
Correct Marks : 5 Wrong Marks : 1

Question Key Details :

Key	Value
Comprehension	MCQ

Arrange the following events in chronological order

- A. Brexit
- B. USSR's invasion over Afghanistan
- C. The Cuban Missile Crisis
- D. The Suez Crisis
- E. Demolition of the Berlin Wall

Choose the correct answer from the options given below:

- 1. C, B, D, A, E
- 2. D, C, B, E, A
- 3. A, C, D, E, B
- 4. C, D, B, E, A

Options :

485584155777. 1
485584155778. 2
485584155779. 3
485584155780. 4

Question Number : 1035 Question Id : 48558438945 Question Type : MCQ Option Shuffling : No Is Question Mandatory : No Calculator : None
Response Time : N.A Think Time : N.A Minimum Instruction Time : 0
Correct Marks : 5 Wrong Marks : 1

Question Key Details :

Key	Value
Comprehension	MCQ

निम्नलिखित घटनाओं को कालानुक्रमिक क्रम में व्यवस्थित करें .

- A. ब्रिक्सिट
- B. अफगानिस्तान पर यू. एस. एस. आर. का आक्रमण
- C. क्यूबा में मिसाइल संकट
- D. स्यूज संकट
- E. बर्लिन की दीवार का दीवार ढह जाना

निम्नलिखित विकल्पों में सही उत्तर का चयन कीजिए :

- 1. C, B, D, A, E
- 2. D, C, B, E, A
- 3. A, C, D, E, B
- 4. C, D, B, E, A

Options :

485584155777. 1
485584155778. 2

Question Number : 1036 Question Id : 48558438946 Question Type : MCQ Option Shuffling : No Is Question Mandatory : No Calculator : None
Response Time : N.A Think Time : N.A Minimum Instruction Time : 0

Correct Marks : 5 Wrong Marks : 1

Question Key Details :

Key	Value
Comprehension	MCQ

Match List I with List II

LIST I		LIST II	
A.	Mikhail Gorbachev	I.	Successor of USSR
B.	Russia	II.	Military Pact
C.	Boris Yeltsin	III.	Introduction Reforms
D.	Warsaw	IV.	President of Russia

Choose the correct answer from the options given below:

1. A-I, B-III, C-II, D-IV
2. A-III, B-II, C-I, D-IV
3. A-III, B-I, C-IV, D-II
4. A-I, B-II, C-III, D-IV

Options :

485584155781. 1
485584155782. 2
485584155783. 3
485584155784. 4

Question Number : 1036 Question Id : 48558438946 Question Type : MCQ Option Shuffling : No Is Question Mandatory : No Calculator : None
Response Time : N.A Think Time : N.A Minimum Instruction Time : 0

Correct Marks : 5 Wrong Marks : 1

Question Key Details :

Key	Value
Comprehension	MCQ

सूची I का सूची II से मिलान कीजिए

सूची I		सूची II	
A.	मिखाइल गोर्बाचेव	I.	यू. एस. एस. आर. का उत्तराधिकारी
B.	रूस	II.	मिलिट्री संधि
C.	बोरिस येल्तसिन	III.	सुधारों को आरंभ किया
D.	वारसव (warsaw)	IV.	रूस के राष्ट्रपति

निम्नलिखित विकल्पों में से सही उत्तर का चयन कीजिए :

1. A-I, B-III, C-II, D-IV
2. A-III, B-II, C-I, D-IV
3. A-III, B-I, C-IV, D-II
4. A-I, B-II, C-III, D-IV

Options :

485584155781. 1
485584155782. 2
485584155783. 3
485584155784. 4

Question Number : 1037 Question Id : 48558438947 Question Type : MCQ Option Shuffling : No Is Question Mandatory : No Calculator : None
Response Time : N.A Think Time : N.A Minimum Instruction Time : 0
Correct Marks : 5 Wrong Marks : 1
Question Key Details :

Key	Value
Comprehension	MCQ

Countries who resisted Maastricht Treaty and adoption of European Currency :-

1. Germany and France
2. Britain and Germany
3. Denmark and Sweden
4. Sweden and France

Options :

485584155785. 1
485584155786. 2
485584155787. 3
485584155788. 4

Question Number : 1037 Question Id : 48558438947 Question Type : MCQ Option Shuffling : No Is Question Mandatory : No Calculator : None
Response Time : N.A Think Time : N.A Minimum Instruction Time : 0
Correct Marks : 5 Wrong Marks : 1
Question Key Details :

Key	Value
Comprehension	MCQ

वे देश जिन्होंने साम्यवादी संधि तथा यूरोपीय मुद्रा को स्वीकार करने का विरोध किया -

1. जर्मनी तथा फ्रांस
2. ब्रिटेन तथा जर्मनी
3. डेन्मार्क तथा स्वीडन
4. स्वीडन तथा फ्रांस

Options :

485584155785. 1
485584155786. 2
485584155787. 3
485584155788. 4

Question Number : 1038 Question Id : 48558438948 Question Type : MCQ Option Shuffling : No Is Question Mandatory : No Calculator : None
Response Time : N.A Think Time : N.A Minimum Instruction Time : 0
Correct Marks : 5 Wrong Marks : 1
Question Key Details :

Key	Value
Comprehension	MCQ

Match List I with List II

LIST I		LIST II	
A.	Rajiv Gandhi visit to China	I.	1998
B.	India's nuclear tests	II.	2001
C.	Chinese President Hu Jintao visited India in	III.	1988
D.	China's accession to WTO	IV.	2006

Choose the correct answer from the options given below:

1. A-III, B-II, C-IV, D-I
2. A-IV, B-I, C-II, D-III
3. A-II, B-I, C-III, D-IV
4. A-III, B-I, C-IV, D-II

Options :

485584155789. 1
485584155790. 2
485584155791. 3
485584155792. 4

Question Number : 1038 Question Id : 48558438948 Question Type : MCQ Option Shuffling : No Is Question Mandatory : No Calculator : None
Response Time : N.A Think Time : N.A Minimum Instruction Time : 0

Correct Marks : 5 Wrong Marks : 1

Question Key Details :

Key	Value
Comprehension	MCQ

सूची I का सूची II से मिलान कीजिए

सूची I		सूची II	
A.	रुजूव गांधी की चीन यात्रा	I.	1998
B.	भारत का परमाणु परीक्षण	II.	2001
C.	चीन के राष्ट्रपति हु जिन्ताओ भारत आये	III.	1988
D.	चीन का ठब्यू टी ओ तक पहुँचना	IV.	2006

निम्नलिखित विकल्पों में से सही उत्तर का चयन कीजिए :

1. A-III, B-II, C-IV, D-I
2. A-IV, B-I, C-II, D-III
3. A-II, B-I, C-III, D-IV
4. A-III, B-I, C-IV, D-II

Options :

485584155789. 1
485584155790. 2
485584155791. 3
485584155792. 4

Question Number : 1039 Question Id : 48558438949 Question Type : MCQ Option Shuffling : No Is Question Mandatory : No Calculator : None
Response Time : N.A Think Time : N.A Minimum Instruction Time : 0

Correct Marks : 5 Wrong Marks : 1

Question Key Details :

Key	Value
Comprehension	MCQ

Choose the correct answer from the following :

- A. 1979 June, first direct elections to the European Parliament.
- B. 2012 The EU is awarded the Nobel Peace Prize
- C. Referendum in Britain. 51.9 percent voters decide that Britain exit (Brexit) from the EU
- D. 1991, January, Greece exit the EC (European Community)
- E. 2002 January, Austria, Finland and Sweden join the EU

Choose the correct answer from the options given below:

- 1. A, B, C
- 2. B, C, D
- 3. C, D, E
- 4. A, B, E

Options :

- 485584155793. 1
- 485584155794. 2
- 485584155795. 3
- 485584155796. 4

Question Number : 1039 Question Id : 48558438949 Question Type : MCQ Option Shuffling : No Is Question Mandatory : No Calculator : None
Response Time : N.A Think Time : N.A Minimum Instruction Time : 0
Correct Marks : 5 Wrong Marks : 1

Question Key Details :

Key	Value
Comprehension	MCQ

निम्नलिखित में से उचित उत्तर का चयन करें :

- A. 1979 जून, यूरोपीय विधान सभा में प्रत्यक्ष चुनाव।
- B. 2012 ई. यू. को नोबेल शांति पुरस्कार दिया गया।
- C. ब्रिटेन में जनमत संग्रह, 51.9 प्रतिशत वोटर निश्चय करते हैं कि ब्रिटेन ई. यू. से बाहर निकले (ब्रिक्सट)।
- D. जनवरी 1991, ग्रीक यूरोपियन समूह से बाहर निकाल जाता है।
- E. जनवरी 2002 आस्ट्रिया, फिनलैंड तथा स्वीडन ई. यू. से जुड़ जाते हैं।

नीचे दिए गए विकल्पों में से सही उत्तर का चयन करें :

- 1. A, B, C
- 2. B, C, D
- 3. C, D, E
- 4. A, B, E

Options :

- 485584155793. 1
- 485584155794. 2
- 485584155795. 3
- 485584155796. 4

Question Number : 1040 Question Id : 48558438950 Question Type : MCQ Option Shuffling : No Is Question Mandatory : No Calculator : None
Response Time : N.A Think Time : N.A Minimum Instruction Time : 0
Correct Marks : 5 Wrong Marks : 1

Question Key Details :

Key	Value
-----	-------

Comprehension	MCQ
---------------	-----

In case of Sri Lankan crisis, which of the following Scandinavian countries have been trying to bring the warring groups back to negotiations.

1. Sweden and Denmark
2. Denmark and Greenland
3. Norway and Iceland
4. Alands Island and Finland

Options :

485584155797. 1
485584155798. 2
485584155799. 3
485584155800. 4

Question Number : 1040 Question Id : 48558438950 Question Type : MCQ Option Shuffling : No Is Question Mandatory : No Calculator : None

Response Time : N.A Think Time : N.A Minimum Instruction Time : 0

Correct Marks : 5 Wrong Marks : 1

Question Key Details :

Key	Value
Comprehension	MCQ

श्रीलंका के संकट के संदर्भ में निम्नलिखित में से कौन-से स्कैन्डिनेवियाई देश युद्ध करने वाले समूहों को वापिस समझौता के लिए राजी करने का प्रयास कर रहे हैं ?

1. स्वीडन तथा डेन्मार्क
2. डेन्मार्क तथा ग्रीनलैंड
3. नार्वे तथा आइसलैंड
4. एलैंडस द्वीप तथा फिनलैंड

Options :

485584155797. 1
485584155798. 2
485584155799. 3
485584155800. 4

Question Number : 1041 Question Id : 48558438951 Question Type : MCQ Option Shuffling : No Is Question Mandatory : No Calculator : None

Response Time : N.A Think Time : N.A Minimum Instruction Time : 0

Correct Marks : 5 Wrong Marks : 1

Question Key Details :

Key	Value
Comprehension	MCQ

Match List I with List II

LIST I UN Secretarits General		LIST II Achievements	
A.	Kofi A. Annan	I.	Worked for resolving the cuban crisis and ending the congo crisis
B.	Boutros Boutros Ghali	II.	Nobel Peace Prize (2001)
C.	U Thant	III.	The Second Asian to hold the post of UN secretaries
D.	Ban Ki Moon	IV.	An Agenda for Peace

Choose the correct answer from the options given below:

1. A-II, B-IV, C-I, D-III
2. A-I, B-II, C-III, D-IV
3. A-IV, B-III, C-II, D-I
4. A-III, B-IV, C-II, D-I

Options :

485584155801. 1
485584155802. 2
485584155803. 3
485584155804. 4

Question Number : 1041 Question Id : 48558438951 Question Type : MCQ Option Shuffling : No Is Question Mandatory : No Calculator : None Response Time : N.A Think Time : N.A Minimum Instruction Time : 0

Correct Marks : 5 Wrong Marks : 1

Question Key Details :

Key	Value
Comprehension	MCQ

सूची I का सूची II से मिलान कीजिए

सूची I		सूची II	
संयुक्त राष्ट्रसंघ के महासचिव		उपलब्धियाँ	
A.	कोफी ए अन्नान	I.	क्यूबा के संकट का समाधान तथा कांगो संकट की समाप्ति के लिए कार्य किया
B.	बुतरस बुतरस घाली	II.	नोबेल शांति पुरस्कार (2001)
C.	यू थान्ट	III.	संयुक्त राष्ट्रसंघ के महासचिव के पद पर बैठने वाला दूसरे एशियाई
D.	ब्रॉन की मून	IV.	शांति संस्थापक

निम्नलिखित विकल्पों में से सही उत्तर का चयन कीजिए :

1. A-II, B-IV, C-I, D-III
2. A-I, B-II, C-III, D-IV
3. A-IV, B-III, C-II, D-I
4. A-III, B-IV, C-II, D-I

Options :

485584155801. 1
485584155802. 2
485584155803. 3
485584155804. 4

Question Number : 1042 Question Id : 48558438952 Question Type : MCQ Option Shuffling : No Is Question Mandatory : No Calculator : None Response Time : N.A Think Time : N.A Minimum Instruction Time : 0

Correct Marks : 5 Wrong Marks : 1

Question Key Details :

Key	Value
Comprehension	MCQ

The number of indigenous people spread throughout the world are approximately.

1. 30 crore
2. 50 crore
3. 40 crore
4. 60 crore

Options :

485584155805. 1
485584155806. 2
485584155807. 3
485584155808. 4

Question Number : 1042 Question Id : 48558438952 Question Type : MCQ Option Shuffling : No Is Question Mandatory : No Calculator : None Response Time : N.A Think Time : N.A Minimum Instruction Time : 0

Correct Marks : 5 Wrong Marks : 1

Question Key Details :

Key	Value
Comprehension	MCQ

सम्पूर्ण विश्व में व्याप्त मूलवासियों की संख्या अनुमानतः _____ है।

1. 30 करोड़
2. 50 करोड़
3. 40 करोड़
4. 60 करोड़

Options :

485584155805. 1
485584155806. 2
485584155807. 3
485584155808. 4

Question Number : 1043 Question Id : 48558438953 Question Type : MCQ Option Shuffling : No Is Question Mandatory : No Calculator : None Response Time : N.A Think Time : N.A Minimum Instruction Time : 0

Correct Marks : 5 Wrong Marks : 1

Question Key Details :

Key	Value
Comprehension	MCQ

In which year India embarked on a programme of economic reforms that has sought increasingly to de-regulate various sector including trade and foreign investment?

1. 1981
2. 1989
3. 1991
4. 1996

Options :

485584155809. 1

485584155810. 2

485584155811. 3

485584155812. 4

Question Number : 1043 Question Id : 48558438953 Question Type : MCQ Option Shuffling : No Is Question Mandatory : No Calculator : None Response Time : N.A Think Time : N.A Minimum Instruction Time : 0

Correct Marks : 5 Wrong Marks : 1

Question Key Details :

Key	Value
Comprehension	MCQ

किस वर्ष में भारत ने आर्थिक सुधारों के कार्यक्रम का आरंभ किया जिसे व्यापार तथा विदेश में व्यय सहित विविध विभागों का तेजी से नियमित करने की आवश्यकता हुई

1. 1981

2. 1989

3. 1991

4. 1996

Options :

485584155809. 1

485584155810. 2

485584155811. 3

485584155812. 4

Question Number : 1044 Question Id : 48558438954 Question Type : MCQ Option Shuffling : No Is Question Mandatory : No Calculator : None Response Time : N.A Think Time : N.A Minimum Instruction Time : 0

Correct Marks : 5 Wrong Marks : 1

Question Key Details :

Key	Value
Comprehension	MCQ

- A. NATO was led by USSR
- B. In 1956 Britain attacked Egypt over the Suez canal issue
- C. Indian National Army was created by Lala Lajpat Rai
- D. First summit of the NAM was held in Belgrade

Choose the correct one

1. A, B and D

2. B, C and D

3. A, B and C

4. D, C and A

Options :

485584155813. 1

485584155814. 2

485584155815. 3

485584155816. 4

Question Number : 1044 Question Id : 48558438954 Question Type : MCQ Option Shuffling : No Is Question Mandatory : No Calculator : None Response Time : N.A Think Time : N.A Minimum Instruction Time : 0

Correct Marks : 5 Wrong Marks : 1

Question Key Details :

Key	Value
Comprehension	MCQ

- A. यू. एस. एस. आर. का नेतृत्व NATO द्वारा किया गया
 B. स्यूज़ नहर के संबंध में वर्ष 1956 में ब्रिटेन ने मिस्र पर आक्रमण किया
 C. लाला लाजपत राय द्वारा INA का गठन किया गया
 D. NAM का पहला सम्मेलन बैलगेड में आयोजित किया गया था

नीचे दिए गए विकल्पों में से सही उत्तर का चयन करें

1. A, B और D
2. B, C और D
3. A, B और C
4. D, C और A

Options :

485584155813. 1
 485584155814. 2
 485584155815. 3
 485584155816. 4

Question Number : 1045 Question Id : 48558438955 Question Type : MCQ Option Shuffling : No Is Question Mandatory : No Calculator : None Response Time : N.A Think Time : N.A Minimum Instruction Time : 0 Correct Marks : 5 Wrong Marks : 1

Question Key Details :

Key	Value
Comprehension	MCQ

Given below are two statements: one is labelled as Assertion A and the other is labelled as Reason R

Assertion A : Shastri was the country's Prime Minister from 1962 to 1966;

Reason R : Shastri was a non-controversial leader from Uttar Pradesh.

In the light of the above statements, choose the correct answer from the options given below:

1. Both A and R are true and R is the correct explanation of A.
2. Both A and R are true but R is NOT the correct explanation of A
3. A is true but R is false
4. A is false but R is true

Options :

485584155817. 1
 485584155818. 2
 485584155819. 3
 485584155820. 4

Question Number : 1045 Question Id : 48558438955 Question Type : MCQ Option Shuffling : No Is Question Mandatory : No Calculator : None Response Time : N.A Think Time : N.A Minimum Instruction Time : 0 Correct Marks : 5 Wrong Marks : 1

Question Key Details :

Key	Value
Comprehension	MCQ

नीचे दो कथन दिए गए हैं : एक है अभिकथन (A) के रूप में लिखित है तो दूसरा उसके कारण (R) के रूप में,

अभिकथन (A) : शास्त्री वर्ष 1962 से 1966 तक भारत के प्रधान मंत्री थे।

कारण (R) : शास्त्री उत्तर प्रदेश से एक अविवादस्पद नेता थे।

उपरोक्त कथन के आलोक में, नीचे दिए गए विकल्पों में से सही उत्तर का चयन कीजिए:

1. A और R दोनों सत्य हैं और R, A की सही व्याख्या है
2. A और R दोनों सत्य हैं और R, A की सही व्याख्या नहीं है
3. A सत्य है लेकिन R असत्य है
4. A असत्य है लेकिन R सत्य है

Options :

485584155817. 1
485584155818. 2
485584155819. 3
485584155820. 4

Question Number : 1046 Question Id : 48558438956 Question Type : MCQ Option Shuffling : No Is Question Mandatory : No Calculator : None Response Time : N.A Think Time : N.A Minimum Instruction Time : 0

Correct Marks : 5 Wrong Marks : 1

Question Key Details :

Key	Value
Comprehension	MCQ

Medha Patkar is associated with :

1. Narmada Bachao Andolan
2. Chipko Movement
3. BKU
4. Dalit Panther

Options :

485584155821. 1
485584155822. 2
485584155823. 3
485584155824. 4

Question Number : 1046 Question Id : 48558438956 Question Type : MCQ Option Shuffling : No Is Question Mandatory : No Calculator : None Response Time : N.A Think Time : N.A Minimum Instruction Time : 0

Correct Marks : 5 Wrong Marks : 1

Question Key Details :

Key	Value
Comprehension	MCQ

मेधा पाटकर संबंधित है -

1. नर्मदा बचाओ आंदोलन
2. चिपको आंदोलन
3. बी के यू
4. दलित पैथर

Options :

485584155821. 1
485584155822. 2
485584155823. 3
485584155824. 4

Question Number : 1047 Question Id : 48558438957 Question Type : MCQ Option Shuffling : No Is Question Mandatory : No Calculator : None Response Time : N.A Think Time : N.A Minimum Instruction Time : 0

Correct Marks : 5 Wrong Marks : 1

Question Key Details :

Key	Value
Comprehension	MCQ

Which of the statements are true about globalisation ?

- A Globalisation is purely an economic phenomenon
B Globalisation began in 1991.
C Globalisation is the same thing as westernization
D Globalisation is a multi-dimensional phenomenon

1. B & D
2. C & D
3. A & B
4. B & C

Options :

485584155825. 1
485584155826. 2
485584155827. 3
485584155828. 4

Question Number : 1047 Question Id : 48558438957 Question Type : MCQ Option Shuffling : No Is Question Mandatory : No Calculator : None Response Time : N.A Think Time : N.A Minimum Instruction Time : 0

Correct Marks : 5 Wrong Marks : 1

Question Key Details :

Key	Value
Comprehension	MCQ

वैश्वीकरण के संदर्भ में कौन-सा कथन सत्य है?

- A. वैश्वीकरण शुद्धरूप से एक आर्थिक घटना है
- B. वैश्वीकरण 1991 में आरम्भ हुआ
- C. वैश्वीकरण पक्षायीकरण जैसा ही है।
- D. वैश्वीकरण एक बहु-आयामी घटना है

- 1. B & D
- 2. C & D
- 3. A & B
- 4. B & C

Options :

- 485584155825. 1
- 485584155826. 2
- 485584155827. 3
- 485584155828. 4

Question Number : 1048 Question Id : 48558438958 Question Type : MCQ Option Shuffling : No Is Question Mandatory : No Calculator : None
Response Time : N.A Think Time : N.A Minimum Instruction Time : 0
Correct Marks : 5 Wrong Marks : 1

Question Key Details :

Key	Value
Comprehension	MCQ

Match List I with List II

LIST I		LIST II	
A.	Earth Summit	I.	1959
B.	Antarctica Treaty	II.	1991
C.	Montreal Protocol	III.	1987
D.	Antarctica Environmental Protocol	IV.	1992

Choose the correct answer from the options given below:

- 1. A-IV, B-I, C-III, D-II
- 2. A-II, B-I, C-III, D-IV
- 3. A-III, B-IV, C-I, D-II
- 4. A-I, B-IV, C-II, D-III

Options :

- 485584155829. 1
- 485584155830. 2
- 485584155831. 3
- 485584155832. 4

Question Number : 1048 Question Id : 48558438958 Question Type : MCQ Option Shuffling : No Is Question Mandatory : No Calculator : None
Response Time : N.A Think Time : N.A Minimum Instruction Time : 0

Correct Marks : 5 Wrong Marks : 1

Question Key Details :

Key	Value
Comprehension	MCQ

सूची I का सूची II से मिलान कीजिए

सूची I		सूची II	
A.	भूमि सम्मेलन	I.	1959
B.	अंटार्कटिका संधि	II.	1991
C.	मॉन्ट्रियल प्रोटोकॉल	III.	1987
D.	अंटार्कटिका पर्यावरणीय योजना	IV.	1992

निम्नलिखित विकल्पों में से सही उत्तर का चयन कीजिए :

1. A-IV, B-I, C-III, D-II
2. A-II, B-I, C-III, D-IV
3. A-III, B-IV, C-I, D-II
4. A-I, B-IV, C-II, D-III

Options :

485584155829. 1
485584155830. 2
485584155831. 3
485584155832. 4

Question Number : 1049 Question Id : 48558438959 Question Type : MCQ Option Shuffling : No Is Question Mandatory : No Calculator : None Response Time : N.A Think Time : N.A Minimum Instruction Time : 0

Correct Marks : 5 Wrong Marks : 1

Question Key Details :

Key	Value
Comprehension	MCQ

The Club of Rome, a global think tank published a book in 1972 entitled :

1. Loyal to Growth
2. Limits to Growth
3. Little to Growth
4. Limited Growth

Options :

485584155833. 1
485584155834. 2
485584155835. 3
485584155836. 4

Question Number : 1049 Question Id : 48558438959 Question Type : MCQ Option Shuffling : No Is Question Mandatory : No Calculator : None Response Time : N.A Think Time : N.A Minimum Instruction Time : 0

Correct Marks : 5 Wrong Marks : 1

Question Key Details :

Key	Value
Comprehension	MCQ

वैश्विक सिद्धांत समूह 'क्लब ऑफ रोम' ने 1972 में पुस्तक प्रकाशित की जिसका शीर्षक है -

1. लॉयल टू ग्रोथ
2. लिमिटेड टू ग्रोथ
3. लिटिल टू ग्रोथ
4. लिमिटेड ग्रोथ

Options :

485584155833. 1
485584155834. 2
485584155835. 3
485584155836. 4

Question Number : 1050 Question Id : 48558438960 Question Type : MCQ Option Shuffling : No Is Question Mandatory : No Calculator : None Response Time : N.A Think Time : N.A Minimum Instruction Time : 0

Correct Marks : 5 Wrong Marks : 1

Question Key Details :

Key	Value
Comprehension	MCQ

Write the full form of UNFCCC

1. United Nations Frame Work Convention on Climate Change
2. Union Nations Frame Work Convention on Climate Change
3. United National Frame Work Convention on Climate Change
4. United Nations forum Convention on Climate Change

Options :

485584155837. 1
485584155838. 2
485584155839. 3
485584155840. 4

Question Number : 1050 Question Id : 48558438960 Question Type : MCQ Option Shuffling : No Is Question Mandatory : No Calculator : None Response Time : N.A Think Time : N.A Minimum Instruction Time : 0

Correct Marks : 5 Wrong Marks : 1

Question Key Details :

Key	Value
Comprehension	MCQ

यू एन एफ सी सी का विस्तृत स्वरूप क्या है?

1. यूनाइटेड नेशन्स फ्रेमवर्क कन्वेंशन ऑन क्लायमेट चेंज
2. यूनाइटेड नेशन्स फ्रेमवर्क कन्वेंशन ऑन क्लायमेट चेंज
3. यूनाइटेड नेशनल फ्रेमवर्क कन्वेंशन ऑन क्लायमेट चेंज
4. यूनाइटेड नेशनल फोरम कन्वेंशन ऑन क्लायमेट चेंज

Options :

485584155837. 1
485584155838. 2
485584155839. 3
485584155840. 4

Question Number : 1051 Question Id : 48558438961 Question Type : MCQ Option Shuffling : No Is Question Mandatory : No Calculator : None
Response Time : N.A Think Time : N.A Minimum Instruction Time : 0

Correct Marks : 5 Wrong Marks : 1

Question Key Details :

Key	Value
Comprehension	MCQ

Write the full form of SARS

1. Several acute respiratory syndrome
2. Severe acute respiratory syndrome
3. Several actual respiratory syndrome
4. Several acute reason syndrome

Options :

485584155841. 1
485584155842. 2
485584155843. 3
485584155844. 4

Question Number : 1051 Question Id : 48558438961 Question Type : MCQ Option Shuffling : No Is Question Mandatory : No Calculator : None
Response Time : N.A Think Time : N.A Minimum Instruction Time : 0

Correct Marks : 5 Wrong Marks : 1

Question Key Details :

Key	Value
Comprehension	MCQ

सार्स का पूरा नाम लिखिए -

1. सेवेरल एक्यूट रेस्पिरेट्री सिन्ड्रोम
2. सीवियर एक्यूट रेस्पिरेट्री सिन्ड्रोम
3. सीवियर एक्चुअल रेस्पिरेट्री सिन्ड्रोम
4. सीवियर एक्यूट रीजन सिन्ड्रोम

Options :

485584155841. 1
485584155842. 2
485584155843. 3
485584155844. 4

Question Number : 1052 Question Id : 48558438962 Question Type : MCQ Option Shuffling : No Is Question Mandatory : No Calculator : None
Response Time : N.A Think Time : N.A Minimum Instruction Time : 0

Correct Marks : 5 Wrong Marks : 1

Question Key Details :

Key	Value
Comprehension	MCQ

NPT was an _____ treaty

1. Arms Control
2. Arms Race
3. Arms Reduction
4. Arms Quality

Options :

485584155845. 1
485584155846. 2
485584155847. 3
485584155848. 4

Question Number : 1052 Question Id : 48558438962 Question Type : MCQ Option Shuffling : No Is Question Mandatory : No Calculator : None Response Time : N.A Think Time : N.A Minimum Instruction Time : 0 Correct Marks : 5 Wrong Marks : 1 Question Key Details :

Key	Value
Comprehension	MCQ

एन पी टी एक _____ संधि थी।

1. हथियार नियंत्रण
2. हथियारों की रेस
3. हथियार न्यूनीकरण
4. हथियार गुणवत्ता

Options :

485584155845. 1
485584155846. 2
485584155847. 3
485584155848. 4

Question Number : 1053 Question Id : 48558438963 Question Type : MCQ Option Shuffling : No Is Question Mandatory : No Calculator : None Response Time : N.A Think Time : N.A Minimum Instruction Time : 0 Correct Marks : 5 Wrong Marks : 1 Question Key Details :

Key	Value
Comprehension	MCQ

In which Year Afghanistan joins SAARC

1. 2003
2. 2004
3. 2005
4. 2007

Options :

485584155849. 1
485584155850. 2
485584155851. 3
485584155852. 4

Question Number : 1053 Question Id : 48558438963 Question Type : MCQ Option Shuffling : No Is Question Mandatory : No Calculator : None
Response Time : N.A Think Time : N.A Minimum Instruction Time : 0
Correct Marks : 5 Wrong Marks : 1

Question Key Details :

Key	Value
Comprehension	MCQ

अफगानिस्तान किस वर्ष में 'सार्क' में सम्मिलित हुआ?

1. 2003
2. 2004
3. 2005
4. 2007

Options :

485584155849. 1
485584155850. 2
485584155851. 3
485584155852. 4

Question Number : 1054 Question Id : 48558438964 Question Type : MCQ Option Shuffling : No Is Question Mandatory : No Calculator : None
Response Time : N.A Think Time : N.A Minimum Instruction Time : 0
Correct Marks : 5 Wrong Marks : 1

Question Key Details :

Key	Value
Comprehension	MCQ

Which of the following country was facing issues between two ethnic groups (Sinhalese and Tamilians)

1. India
2. Pakistan
3. Sri Lanka
4. Nepal

Options :

485584155853. 1
485584155854. 2
485584155855. 3
485584155856. 4

Question Number : 1054 Question Id : 48558438964 Question Type : MCQ Option Shuffling : No Is Question Mandatory : No Calculator : None
Response Time : N.A Think Time : N.A Minimum Instruction Time : 0
Correct Marks : 5 Wrong Marks : 1

Question Key Details :

Key	Value
Comprehension	MCQ

निम्नलिखित में से कौन-सा देश दो जातीय समूहों के बीच विवादों का सामना कर रहा था (सिंहली और तमिल)

1. भारत
2. पाकिस्तान
3. श्रीलंका
4. नेपाल

Options :

485584155853. 1
 485584155854. 2
 485584155855. 3
 485584155856. 4

Question Number : 1055 Question Id : 48558438965 Question Type : MCQ Option Shuffling : No Is Question Mandatory : No Calculator : None Response Time : N.A Think Time : N.A Minimum Instruction Time : 0

Correct Marks : 5 Wrong Marks : 1

Question Key Details :

Key	Value
Comprehension	MCQ

Which among the following statement about South Asia is TRUE ?

1. The US and China play an influential role in South Asia Politics.
2. Bhutan and India have signed an agreement on river water sharing.
3. All countries in South Asia are democratic.
4. SAFTA was signed at the 18th SAARC summit in Kathmandu.

Options :

485584155857. 1
 485584155858. 2
 485584155859. 3
 485584155860. 4

Question Number : 1055 Question Id : 48558438965 Question Type : MCQ Option Shuffling : No Is Question Mandatory : No Calculator : None Response Time : N.A Think Time : N.A Minimum Instruction Time : 0

Correct Marks : 5 Wrong Marks : 1

Question Key Details :

Key	Value
Comprehension	MCQ

निम्नलिखित में से दक्षिण एशिया के संबंध में कौन-सा कथन सत्य है -

1. अमेरिका और चीन दक्षिण एशियाई राजनीति में प्रभावशाली भूमिका अदा करते हैं।
2. भूटान एवं भारत ने नदी जल की साझेदारी के लिए अनुबंध पर हस्ताक्षर किया।
3. दक्षिण एशिया के सभी देश लोकतान्त्रिक हैं।
4. 18वें सार्क शिखर सम्मेलन में काठमांडू में साफ्टा (SAFTA) पर हस्ताक्षर किए गए थे।

Options :

485584155857. 1
 485584155858. 2
 485584155859. 3
 485584155860. 4

Question Number : 1056 Question Id : 48558438966 Question Type : MCQ Option Shuffling : No Is Question Mandatory : No Calculator : None Response Time : N.A Think Time : N.A Minimum Instruction Time : 0

Correct Marks : 5 Wrong Marks : 1

Question Key Details :

Key	Value
Comprehension	MCQ

Two founder member of ASEAN -

1. Cambodia and Vietnam
2. Indonesia and Malaysia
3. Mauritius and Myanmar
4. Australia and China

Options :

485584155861. 1
485584155862. 2
485584155863. 3
485584155864. 4

Question Number : 1056 Question Id : 48558438966 Question Type : MCQ Option Shuffling : No Is Question Mandatory : No Calculator : None Response Time : N.A Think Time : N.A Minimum Instruction Time : 0

Correct Marks : 5 Wrong Marks : 1

Question Key Details :

Key	Value
Comprehension	MCQ

आसियान (ASEAN) के दो संस्थापक सदस्य है -

1. कंबोडिया और मलेशिया
2. इंडोनेशिया और मलेशिया
3. मॉरीशस और म्यांमार
4. ऑस्ट्रेलिया और चीन

Options :

485584155861. 1
485584155862. 2
485584155863. 3
485584155864. 4

Question Number : 1057 Question Id : 48558438967 Question Type : MCQ Option Shuffling : No Is Question Mandatory : No Calculator : None Response Time : N.A Think Time : N.A Minimum Instruction Time : 0

Correct Marks : 5 Wrong Marks : 1

Question Key Details :

Key	Value
Comprehension	MCQ

Match List I with List II

LIST I		LIST II	
A.	Sikkim	I.	Aizawl
B.	Tripura	II.	Gangtok
C.	Mizoram	III.	Kohima
D.	Nagaland	IV.	Agartala

Choose the correct answer from the options given below:

1. A-I, B-II, C-III, D-IV
2. A-II, B-IV, C-I, D-III
3. A-II, B-IV, C-I, D-III
4. A-IV, B-III, C-II, D-I

Options :

485584155865. 1
485584155866. 2
485584155867. 3
485584155868. 4

Question Number : 1057 Question Id : 48558438967 Question Type : MCQ Option Shuffling : No Is Question Mandatory : No Calculator : None Response Time : N.A Think Time : N.A Minimum Instruction Time : 0

Correct Marks : 5 Wrong Marks : 1

Question Key Details :

Key	Value
Comprehension	MCQ

सूची I का सूची II से मिलान कीजिए

सूची I		सूची II	
A.	सिक्किम	I.	आइजोल
B.	त्रिपुरा	II.	गंगटोक
C.	मिज़ोरम	III.	कोहिमा
D.	नागालैंड	IV.	अगरतला

निम्नलिखित विकल्पों में से सही उत्तर का चयन कीजिए :

1. A-I, B-II, C-III, D-IV
2. A-II, B-IV, C-I, D-III
3. A-II, B-IV, C-I, D-III
4. A-IV, B-III, C-II, D-I

Options :

485584155865. 1
485584155866. 2
485584155867. 3
485584155868. 4

Question Number : 1058 Question Id : 48558438968 Question Type : MCQ Option Shuffling : No Is Question Mandatory : No Calculator : None Response Time : N.A Think Time : N.A Minimum Instruction Time : 0

Correct Marks : 5 Wrong Marks : 1

Question Key Details :

Key	Value
Comprehension	MCQ

Name the secretary general of UN who created the global fund to fight AIDS

1. U Thant
2. Kofi Annan
3. Antonio Guterres
4. Javier Perez

Options :

485584155869. 1
485584155870. 2
485584155871. 3
485584155872. 4

Question Number : 1058 Question Id : 48558438968 Question Type : MCQ Option Shuffling : No Is Question Mandatory : No Calculator : None Response Time : N.A Think Time : N.A Minimum Instruction Time : 0

Correct Marks : 5 Wrong Marks : 1

Question Key Details :

Key	Value
Comprehension	MCQ

संयुक्त राष्ट्र संघ के उस महासचिव का नाम बताएँ जिन्होंने AIDS से लड़ने के लिए एक वैश्विक कोष बनाया ?

1. यू थॉट
2. कोफी अन्नान
3. एंटोनियो गुएटेरेस
4. जेवीयर पेरेज

Options :

485584155869. 1
485584155870. 2
485584155871. 3
485584155872. 4

Question Number : 1059 Question Id : 48558438969 Question Type : MCQ Option Shuffling : No Is Question Mandatory : No Calculator : None Response Time : N.A Think Time : N.A Minimum Instruction Time : 0

Correct Marks : 5 Wrong Marks : 1

Question Key Details :

Key	Value
Comprehension	MCQ

Electricity Act of 2003 encourages the uses of

1. Renewable Energy
2. Non-renewable Energy
3. No use of coal technology
4. not importing the natural gas

Options :

485584155873. 1
485584155874. 2
485584155875. 3

485584155876. 4

Question Number : 1059 Question Id : 48558438969 Question Type : MCQ Option Shuffling : No Is Question Mandatory : No Calculator : None
Response Time : N.A Think Time : N.A Minimum Instruction Time : 0

Correct Marks : 5 Wrong Marks : 1

Question Key Details :

Key	Value
Comprehension	MCQ

2003 का विद्युत् अधिनियम _____ के प्रयोग को प्रोत्साहित करता है -

1. पुनर्नवीनीकृत ऊर्जा
2. अपुनर्नवीनीकृत ऊर्जा
3. कोल तकनीक के प्रयोग न करने को
4. प्राकृतिक गैस के आयात को न करने को

Options :

485584155873. 1
485584155874. 2
485584155875. 3
485584155876. 4

Question Number : 1060 Question Id : 48558438970 Question Type : MCQ Option Shuffling : No Is Question Mandatory : No Calculator : None
Response Time : N.A Think Time : N.A Minimum Instruction Time : 0

Correct Marks : 5 Wrong Marks : 1

Question Key Details :

Key	Value
Comprehension	MCQ

In which year India ratified the Paris Climate Agreement

1. 2014
2. 2015
3. 2016
4. 2017

Options :

485584155877. 1
485584155878. 2
485584155879. 3
485584155880. 4

Question Number : 1060 Question Id : 48558438970 Question Type : MCQ Option Shuffling : No Is Question Mandatory : No Calculator : None
Response Time : N.A Think Time : N.A Minimum Instruction Time : 0

Correct Marks : 5 Wrong Marks : 1

Question Key Details :

Key	Value
Comprehension	MCQ

किस वर्ष में भारत ने पेरिस जलवायु समझौते का पुनर्स्थापना किया

1. 2014
2. 2015
3. 2016
4. 2017

Options :

485584155877. 1
485584155878. 2
485584155879. 3
485584155880. 4

Sub-Section Number : 2
Sub-Section Id : 4855842959
Question Shuffling Allowed : No
Is Section Default? : null

Question Number : 1061 **Question Id :** 48558438971 **Question Type :** MCQ **Option Shuffling :** No **Is Question Mandatory :** No **Calculator :** None
Response Time : N.A **Think Time :** N.A **Minimum Instruction Time :** 0
Correct Marks : 5 **Wrong Marks :** 1

Question Key Details :

Key	Value
Comprehension	Comp1

Read the following passage and answer the questions given below.

By 2011, the UN had 193 member states. These included almost all independent states. In the UN General Assembly, all members have one vote each. In the UN Security Council, there are five permanent members. These are: the United States, Russia, the United Kingdom, France and China. These states were selected as permanent members as they were the most powerful immediately after the Second World War and because they constituted the victors in the War.

The UN's most visible public figure, and the representative head, is the Secretary-General. The present Secretary-General is Antonio Guterres. He is the ninth Secretary General of the UN. He took over as the Secretary-General on 1 January 2017. He was the Prime Minister of Portugal.

In the UN General Assembly all members have how many vote ?

1. One vote each
2. Two vote each
3. Only few members can vote
4. Five vote each

Options :

485584155881. 1
485584155882. 2
485584155883. 3
485584155884. 4

Question Number : 1061 **Question Id :** 48558438971 **Question Type :** MCQ **Option Shuffling :** No **Is Question Mandatory :** No **Calculator :** None
Response Time : N.A **Think Time :** N.A **Minimum Instruction Time :** 0
Correct Marks : 5 **Wrong Marks :** 1

Question Key Details :

Key	Value
Comprehension	Comp1

नीचे दिए गए अनुच्छेद को ध्यान से पढ़ें एवं प्रश्नों के उत्तर दें -

2011 तक संयुक्त राष्ट्रसंघ के 193 सदस्य राष्ट्र हो गए थे। इसमें लगभग सभी स्वतंत्र राष्ट्र सम्मिलित थे। संयुक्त राष्ट्रसंघ की महासभा में, सभी सदस्यों का प्रत्येक का एक वोट है। संयुक्त राष्ट्रसंघ की सुरक्षा परिषद में पाँच स्थायी सदस्य हैं। ये हैं - अमेरिका, रूस, यूनाइटेड किंगडम, फ्रांस और चीन। इन राष्ट्रों का स्थायी सदस्यों की तरह चयन किया गया क्योंकि द्वितीय विश्वयुद्ध के बाद ये सबसे शक्तिशाली देश थे और क्योंकि ये इस महासुद्ध के विजेता भी रहे।

संयुक्त राष्ट्रसंघ का सबसे अधिक दिखने वाला सार्वजनिक चेहरा और उसका प्रधान प्रतिनिधि महासचिव होता है। वर्तमान महासचिव एंटोनियो गुटेरेस हैं। वह संयुक्त राष्ट्रसंघ के नौवें महासचिव हैं। उन्होंने महासचिव का पद 1 जनवरी 2017 को संभाला। ये 1995 से 2002 तक पुर्तगाल के प्रधानमंत्री और 2005 से 2015 तक यूनाइटेड नेशन्स हाई कमीशन फॉर रिफ्यूजीज रहे।

संयुक्त राष्ट्र संघ की महासभा सभी सदस्यों के कितने वोट हैं?

1. प्रत्येक का एक वोट
2. प्रत्येक के दो वोट
3. केवल कुछ ही सदस्य वोट कर सकते हैं
4. प्रत्येक के पाँच वोट

Options :

485584155881. 1

485584155882. 2

485584155883. 3

485584155884. 4

Question Number : 1062 Question Id : 48558438972 Question Type : MCQ Option Shuffling : No Is Question Mandatory : No Calculator : None Response Time : N.A Think Time : N.A Minimum Instruction Time : 0

Correct Marks : 5 Wrong Marks : 1

Question Key Details :

Key	Value
Comprehension	Compl

Read the following passage and answer the questions given below.

By 2011, the UN had 193 member states. These included almost all independent states. In the UN General Assembly, all members have one vote each. In the UN Security Council, there are five permanent members. These are: the United States, Russia, the United Kingdom, France and China. These states were selected as permanent members as they were the most powerful immediately after the Second World War and because they constituted the victors in the War.

The UN's most visible public figure, and the representative head, is the Secretary-General. The present Secretary-General is Antonio Guterres. he is the ninth Secretary General of the UN. He took over as the Secretary-General on 1 January 2017. He was the Prime Minister of Portugal.

How many permanent members states in the UN Security Council ?

1. 2
2. 3
3. 4
4. 5

Options :

485584155885. 1

485584155886. 2
485584155887. 3
485584155888. 4

Question Number : 1062 Question Id : 48558438972 Question Type : MCQ Option Shuffling : No Is Question Mandatory : No Calculator : None
Response Time : N.A Think Time : N.A Minimum Instruction Time : 0

Correct Marks : 5 Wrong Marks : 1

Question Key Details :

Key	Value
Comprehension	Comp1

नीचे दिए गए अनुच्छेद को ध्यान से पढ़ें एवं प्रश्नों के उत्तर दें -

2011 तक संयुक्त राष्ट्रसंघ के 193 सदस्य राष्ट्र हो गए थे। इसमें लगभग सभी स्वतंत्र राष्ट्र सम्मिलित थे। संयुक्त राष्ट्रसंघ की महासभा में, सभी सदस्यों का प्रत्येक का एक वोट है। संयुक्त राष्ट्रसंघ की सुरक्षा परिषद में पाँच स्थायी सदस्य हैं। ये हैं - अमेरिका, रूस, यूनाइटेड किंगडम, फ्रांस और चीन। इन राष्ट्रों का स्थायी सदस्यों की तरह चयन किया गया क्योंकि द्वितीय विश्वयुद्ध के बाद ये सबसे शक्तिशाली देश थे और क्योंकि ये इस महायुद्ध के विजेता भी रहे।

संयुक्त राष्ट्रसंघ का सबसे अधिक दिखने वाला सार्वजनिक चेहरा और उसका प्रधान प्रतिनिधि महासचिव होता है। वर्तमान महासचिव एंटोनियो गुटेरेस हैं। वह संयुक्त राष्ट्रसंघ के नौवें महासचिव हैं। उन्होंने महासचिव का पद 1 जनवरी 2017 को संभाला। ये 1995 से 2002 तक पुर्तगाल के प्रधानमंत्री और 2005 से 2015 तक यूनाइटेड नेशन्स हाई कमिशन फॉर रिफ्यूजीज रहे।

संयुक्त राष्ट्रसंघ की सुरक्षा परिषद में कितने स्थायी सदस्य हैं?

1. 2
2. 3
3. 4
4. 5

Options :

485584155885. 1
485584155886. 2
485584155887. 3
485584155888. 4

Question Number : 1063 Question Id : 48558438973 Question Type : MCQ Option Shuffling : No Is Question Mandatory : No Calculator : None
Response Time : N.A Think Time : N.A Minimum Instruction Time : 0

Correct Marks : 5 Wrong Marks : 1

Question Key Details :

Key	Value
Comprehension	Comp1

Read the following passage and answer the questions given below.

By 2011, the UN had 193 member states. These included almost all independent states. In the UN General Assembly, all members have one vote each. In the UN Security Council, there are five permanent members. These are: the United States, Russia, the United Kingdom, France and China. These states were selected as permanent members as they were the most powerful immediately after the Second World War and because they constituted the victors in the War.

The UN's most visible public figure, and the representative head, is the Secretary-General. The present Secretary-General is Antonio Guterres. He is the ninth Secretary General of the UN. He took over as the Secretary-General on 1 January 2017. He was the Prime Minister of Portugal.

Name the ninth secretary general of the

1. Traaave Lie
2. Antonio-Guterres
3. U-Thant
4. Ban-Ki-Moon

Options :

485584155889. 1
485584155890. 2
485584155891. 3
485584155892. 4

Question Number : 1063 Question Id : 48558438973 Question Type : MCQ Option Shuffling : No Is Question Mandatory : No Calculator : None
Response Time : N.A Think Time : N.A Minimum Instruction Time : 0

Correct Marks : 5 Wrong Marks : 1

Question Key Details :

Key	Value
Comprehension	Compl

नीचे दिए गए अनुच्छेद को ध्यान से पढ़ें एवं प्रश्नों के उत्तर दें -

2011 तक संयुक्त राष्ट्रसंघ के 193 सदस्य राष्ट्र हो गए थे। इसमें लगभग सभी स्वतंत्र राष्ट्र सम्मिलित थे। संयुक्त राष्ट्रसंघ की महासभा में, सभी सदस्यों का प्रत्येक का एक वोट है। संयुक्त राष्ट्रसंघ की सुरक्षा परिषद में पाँच स्थायी सदस्य हैं। ये हैं - अमेरिका, रूस, यूनाइटेड किंगडम, फ्रांस और चीन। इन राष्ट्रों का स्थायी सदस्यों की तरह चयन किया गया क्योंकि द्वितीय विश्वयुद्ध के बाद ये सबसे शक्तिशाली देश थे और क्योंकि ये इस महासुद्ध के विजेता भी रहे।

संयुक्त राष्ट्रसंघ का सबसे अधिक दिखने वाला सार्वजनिक चेहरा और उसका प्रधान प्रतिनिधि महासचिव होता है। वर्तमान महासचिव एंटोनियो गुटेरेस हैं। वह संयुक्त राष्ट्रसंघ के नौवें महासचिव हैं। उन्होंने महासचिव का पद 1 जनवरी 2017 को संभाला। ये 1995 से 2002 तक पुर्तगाल के प्रधानमंत्री और 2005 से 2015 तक यूनाइटेड नेशन्स हाई कमिशन फॉर रिफ्यूजीज रहे।

संयुक्त राष्ट्रसंघ के नौवें महासचिव का नाम क्या है?

1. ट्रीगवी ली
2. एंटोनियो गुटेरेस
3. यू थॉट
4. बान-की-मून

Options :

485584155889. 1
485584155890. 2
485584155891. 3
485584155892. 4

Question Number : 1064 Question Id : 48558438974 Question Type : MCQ Option Shuffling : No Is Question Mandatory : No Calculator : None
Response Time : N.A Think Time : N.A Minimum Instruction Time : 0

Correct Marks : 5 Wrong Marks : 1

Question Key Details :

Key	Value
Comprehension	Compl

Read the following passage and answer the questions given below.

By 2011, the UN had 193 member states. These included almost all independent states. In the UN General Assembly, all members have one vote each. In the UN Security Council, there are five permanent members. These are: the United States, Russia, the United Kingdom, France and China. These states were selected as permanent members as they were the most powerful immediately after the Second World War and because they constituted the victors in the War.

The UN's most visible public figure, and the representative head, is the Secretary-General. The present Secretary-General is Antonio Guterres. He is the ninth Secretary General of the UN. He took over as the Secretary-General on 1 January 2017. He was the Prime Minister of Portugal.

Who was the Prime Minister of Portugal between (1995-2002)

1. Antonio Guterres
2. Javier Cuellar
3. Kofi A. Anan
4. Mikhail Gorbachev

Options :

485584155893. 1

485584155894. 2

485584155895. 3

485584155896. 4

Question Number : 1064 Question Id : 48558438974 Question Type : MCQ Option Shuffling : No Is Question Mandatory : No Calculator : None

Response Time : N.A Think Time : N.A Minimum Instruction Time : 0

Correct Marks : 5 Wrong Marks : 1

Question Key Details :

Key	Value
Comprehension	Comp1

नीचे दिए गए अनुच्छेद को ध्यान से पढ़ें एवं प्रश्नों के उत्तर दें -

2011 तक संयुक्त राष्ट्रसंघ के 193 सदस्य राष्ट्र हो गए थे। इसमें लगभग सभी स्वतंत्र राष्ट्र सम्मिलित थे। संयुक्त राष्ट्रसंघ की महासभा में, सभी सदस्यों का प्रत्येक का एक वोट है। संयुक्त राष्ट्रसंघ की सुरक्षा परिषद् में पाँच स्थायी सदस्य हैं। ये हैं - अमेरिका, रूस, यूनाइटेड किंगडम, फ्रांस और चीन। इन राष्ट्रों का स्थायी सदस्यों की तरह चयन किया गया क्योंकि द्वितीय विश्वयुद्ध के बाद ये सबसे शक्तिशाली देश थे और क्योंकि ये इस महायुद्ध के विजेता भी रहे।

संयुक्त राष्ट्रसंघ का सबसे अधिक दिखने वाला सार्वजनिक चेहरा और उसका प्रधान प्रतिनिधि महासचिव होता है। वर्तमान महासचिव एंटोनियो गुटेरेस हैं। वह संयुक्त राष्ट्रसंघ के नौवें महासचिव हैं। उन्होंने महासचिव का पद 1 जनवरी 2017 को संभाला। ये 1995 से 2002 तक पुर्तगाल के प्रधानमंत्री और 2005 से 2015 तक यूनाइटेड नेशन्स हाई कमिशन फॉर रिफ्यूजीज रहे।

1995-2002 के मध्य पुर्तगाल का प्रधानमंत्री कौन था?

1. एंटोनियो गुटेरेस
2. जेवीयर कुएलर
3. कोफी ए. अन्नान
4. मिखाईल गोर्बाचेव

Options :

485584155893. 1

485584155894. 2

485584155895. 3

485584155896. 4

Question Number : 1065 Question Id : 48558438975 Question Type : MCQ Option Shuffling : No Is Question Mandatory : No Calculator : None
Response Time : N.A Think Time : N.A Minimum Instruction Time : 0

Correct Marks : 5 Wrong Marks : 1

Question Key Details :

Key	Value
Comprehension	Comp1

Read the following passage and answer the questions given below.

By 2011, the UN had 193 member states. These included almost all independent states. In the UN General Assembly, all members have one vote each. In the UN Security Council, there are five permanent members. These are: the United States, Russia, the United Kingdom, France and China. These states were selected as permanent members as they were the most powerful immediately after the Second World War and because they constituted the victors in the War.

The UN's most visible public figure, and the representative head, is the Secretary-General. The present Secretary-General is Antonio Guterres. he is the ninth Secretary General of the UN. He took over as the Secretary-General on 1 January 2017. He was the Prime Minister of Portugal.

By 2011 the UN had how many member state

1. 191
2. 192
3. 193
4. 194

Options :

485584155897. 1

485584155898. 2

485584155899. 3

485584155900. 4

Question Number : 1065 Question Id : 48558438975 Question Type : MCQ Option Shuffling : No Is Question Mandatory : No Calculator : None
Response Time : N.A Think Time : N.A Minimum Instruction Time : 0

Correct Marks : 5 Wrong Marks : 1

Question Key Details :

Key	Value
Comprehension	Comp1

नीचे दिए गए अनुच्छेद को ध्यान से पढ़ें एवं प्रश्नों के उत्तर दें -

2011 तक संयुक्त राष्ट्रसंघ के 193 सदस्य राष्ट्र हो गए थे। इसमें लगभग सभी स्वतंत्र राष्ट्र सम्मिलित थे। संयुक्त राष्ट्रसंघ की महासभा में, सभी सदस्यों का प्रत्येक का एक वोट है। संयुक्त राष्ट्रसंघ की सुरक्षा परिषद में पाँच स्थायी सदस्य हैं। ये हैं - अमेरिका, रूस, यूनाइटेड किंगडम, फ्रांस और चीन। इन राष्ट्रों का स्थायी सदस्यों की तरह चयन किया गया क्योंकि द्वितीय विश्वयुद्ध के बाद ये सबसे शक्तिशाली देश थे और क्योंकि ये इस महासुद्ध के विजेता भी रहे।

संयुक्त राष्ट्रसंघ का सबसे अधिक दिखने वाला सार्वजनिक चेहरा और उसका प्रधान प्रतिनिधि महासचिव होता है। वर्तमान महासचिव एंटोनियो गुटेरेस हैं। वह संयुक्त राष्ट्रसंघ के नौवें महासचिव हैं। उन्होंने महासचिव का पद 1 जनवरी 2017 को संभाला। ये 1995 से 2002 तक पुर्तगाल के प्रधानमंत्री और 2005 से 2015 तक यूनाइटेड नेशन्स हाई कमीशन फॉर रिफ्यूजीज रहे।

2011 तक संयुक्त राष्ट्रसंघ के कितने सदस्य राष्ट्र थे?

1. 191
2. 192
3. 193
4. 194

Options :

485584155897. 1
485584155898. 2
485584155899. 3
485584155900. 4

Sub-Section Number : 3
Sub-Section Id : 4855842960
Question Shuffling Allowed : No
Is Section Default? : null

Question Number : 1066 Question Id : 48558438976 Question Type : MCQ Option Shuffling : No Is Question Mandatory : No Calculator : None Response Time : N.A Think Time : N.A Minimum Instruction Time : 0 Correct Marks : 5 Wrong Marks : 1 Question Key Details :

Key	Value
Comprehension	Comp2

Read the following passage and answer the questions given below:

India has opposed the international treaties aimed at non-proliferation since they were selectively applicable to the non-nuclear powers and legitimised the monopoly of the five nuclear weapons powers. Thus, India opposed the indefinite extension of the NPT, in 1995 and also refused to sign the comprehensive Test Ban treaty (CTBT).

India conducted a series of nuclear tests in May 1998, demonstrating its capacity to use nuclear energy for military purposes. Pakistan soon followed, thereby increasing the vulnerability of the region to a nuclear exchange. The international community was extremely critical of the nuclear tests in the subcontinent and sanctions were imposed on both India and Pakistan, which were subsequently waived. India's nuclear doctrine of credible minimum nuclear deterrence professes "no first use" and reiterates India's commitment to global, verifiable and non-discriminatory nuclear disarmament leading to a nuclear weapons free world.

The main reason behind the oppositions of CTBT by India involves.....?

1. It is against the five nuclear powers.
2. It is not supported by the UN.
3. It is discriminatory and against the non-nuclear power.
4. It does not promote peaceful use of nuclear power.

Options :

485584155901. 1
485584155902. 2
485584155903. 3
485584155904. 4

Question Number : 1066 Question Id : 48558438976 Question Type : MCQ Option Shuffling : No Is Question Mandatory : No Calculator : None Response Time : N.A Think Time : N.A Minimum Instruction Time : 0 Correct Marks : 5 Wrong Marks : 1 Question Key Details :

Key	Value
Comprehension	Comp2

नीचे दिए गए अनुच्छेद को ध्यान से पढ़ें -

भारत ने परमाणु अप्रसार के लक्ष्य को ध्यान में रखकर की गई संधियों उन्हीं देशों पर लागू होने को थी जो परमाणु शक्ति से हीन थे। इन संधियों के द्वारा परमाणु हथियारों से लैस देशों की जमात के कारण परमाणु शक्ति पर एकाधिकार को वैधता दी जा रही थी। इसी कारण, 1995 में जब परमाणु-अप्रसार संधि को अनियतकाल के लिए बढ़ा दिया गया तो भारत ने इसका विरोध किया और उसने व्यापक परमाणु परीक्षण प्रतिबंध संधि (कंप्रेहेंसिव टेस्ट बैन ट्रीटी - सीटीबीटी) पर भी हस्ताक्षर करने से इंकार कर दिया।

भारत ने 1998 के मई में परमाणु परीक्षण किए और यह जताया कि उसके पास सैन्य उद्देश्यों के लिए अणुशक्ति को प्रयोग में लाने की क्षमता है। इसके तुरन्त बाद पाकिस्तान ने भी परमाणु परीक्षण किए। इससे क्षेत्र में परमाणु युद्ध की आशंका को बल मिला। अन्तर्राष्ट्रीय बिरादरी भारतीय उपमहाद्वीप में हुए इस परमाणु परीक्षण को लेकर बहुत नाराज थी और उसने भारत तथा पाकिस्तान, दोनों पर कुछ प्रतिबंध लगे जिन्हें बाद में हटा लिया गया। भारत की परमाणु नीति में सैद्धांतिक तौर पर यह बात स्वीकार की गई कि भारत अपनी रक्षा के लिए परमाणु हथियार रखेगा लेकिन इन हथियारों का प्रयोग पहले नहीं करेगा। भारत की परमाणु नीति में यह बात दोहराई गई है कि भारत वैश्विक स्तर पर लागू और भेदभावहीन परमाणु निशस्त्रीकरण के प्रति वचनबद्ध है ताकि परमाणु हथियारों से मुक्त विश्व की रचना हो।

सी टी बी टी के भारत के विरोध का मुख्य कारण था _____

1. यह पाँच परमाणु शक्तियों के विरुद्ध है।
2. यह संयुक्त राष्ट्रसंघ द्वारा समर्थित नहीं है।
3. यह भेदभावपूर्ण है और अपरमाणु शक्तियों के विरुद्ध है।
4. यह परमाणु शक्ति के शांतिपूर्ण प्रयोग को बढ़ावा नहीं देता।

Options :

485584155901. 1
485584155902. 2
485584155903. 3
485584155904. 4

Question Number : 1067 Question Id : 48558438977 Question Type : MCQ Option Shuffling : No Is Question Mandatory : No Calculator : None Response Time : N.A Think Time : N.A Minimum Instruction Time : 0 Correct Marks : 5 Wrong Marks : 1

Question Key Details :

Key	Value
Comprehension	Comp2

Read the following passage and answer the questions given below.

India has opposed the international treaties aimed at non-proliferation since they were selectively applicable to the non-nuclear powers and legitimised the monopoly of the five nuclear weapons powers. Thus, India opposed the indefinite extension of the NPT, in 1995 and also refused to sign the comprehensive Test Ban treaty (CTBT).

India conducted a series of nuclear tests in May 1998, demonstrating its capacity to use nuclear energy for military purposes. Pakistan soon followed, thereby increasing the vulnerability of the region to a nuclear exchange. The international community was extremely critical of the nuclear tests in the subcontinent and sanctions were imposed on both India and Pakistan, which were subsequently waived. India's nuclear doctrine of credible minimum nuclear deterrence professes "no first use" and reiterates India's commitment to global, verifiable and non-discriminatory nuclear disarmament leading to a nuclear weapons free world.

What is the full form of CTBT

1. Coronation Test Ban Treaty
2. Comprehensive Test Ban Treaty
3. Coronation tribe Ban Treaty
4. Comprehensive Tric Ban Treaty

Options :

485584155905. 1
485584155906. 2
485584155907. 3
485584155908. 4

Question Number : 1067 Question Id : 48558438977 Question Type : MCQ Option Shuffling : No Is Question Mandatory : No Calculator : None Response Time : N.A Think Time : N.A Minimum Instruction Time : 0

Correct Marks : 5 Wrong Marks : 1

Question Key Details :

Key	Value
Comprehension	Comp2

नीचे दिए गए अनुच्छेद को ध्यान से पढ़ें -

भारत ने परमाणु अप्रसार के लक्ष्य को ध्यान में रखकर की गई संधियों उन्हीं देशों पर लागू होने को थी जो परमाणु शक्ति से हीन थे। इन संधियों के द्वारा परमाणु हथियारों से लैस देशों की जमात के कारण परमाणु शक्ति पर एकाधिकार को वैधता दी जा रही थी। इसी कारण, 1995 में जब परमाणु-अप्रसार संधि को अनियतकाल के लिए बढ़ा दिया गया तो भारत ने इसका विरोध किया और उसने व्यापक परमाणु परीक्षण प्रतिबंध संधि (कंप्रेहेंसिव टेस्ट बैन ट्रीटी - सीटीबीटी) पर भी हस्ताक्षर करने से इंकार कर दिया।

भारत ने 1998 के मई में परमाणु परीक्षण किए और यह जताया कि उसके पास सैन्य उद्देश्यों के लिए अणुशक्ति को प्रयोग में लाने की क्षमता है। इसके तुरन्त बाद पाकिस्तान ने भी परमाणु परीक्षण किए। इससे क्षेत्र में परमाणु युद्ध की आशंका को बल मिला। अन्तर्राष्ट्रीय बिरादरी भारतीय उपमहाद्वीप में हुए इस परमाणु परीक्षण को लेकर बहुत नाराज थी और उसने भारत तथा पाकिस्तान, दोनों पर कुछ प्रतिबंध लगे जिन्हें बाद में हटा लिया गया। भारत की परमाणु नीति में सैद्धांतिक तौर पर यह बात स्वीकार की गई कि भारत अपनी रक्षा के लिए परमाणु हथियार रखेगा लेकिन इन हथियारों का प्रयोग पहले नहीं करेगा। भारत की परमाणु नीति में यह बात दोहराई गई है कि भारत वैश्विक स्तर पर लागू और भेदभावहीन परमाणु निशस्त्रीकरण के प्रति वचनबद्ध है ताकि परमाणु हथियारों से मुक्त विश्व की रचना हो।

सी टी बी टी का पूरा नाम है -

1. कोरोनेशन टेस्ट बैन ट्रीटी
2. कंप्रेहेंसिव टेस्ट बैन ट्रीटी
3. कोरोनेशन टेस्ट बैन ट्रीटी
4. कंप्रेहेंसिव ट्रिब बैन ट्रीटी

Options :

485584155905. 1
485584155906. 2
485584155907. 3
485584155908. 4

Question Number : 1068 Question Id : 48558438978 Question Type : MCQ Option Shuffling : No Is Question Mandatory : No Calculator : None Response Time : N.A Think Time : N.A Minimum Instruction Time : 0

Correct Marks : 5 Wrong Marks : 1

Question Key Details :

Key	Value
Comprehension	Comp2

Read the following passage and answer the questions given below:

India has opposed the international treaties aimed at non-proliferation since they were selectively applicable to the non-nuclear powers and legitimised the monopoly of the five nuclear weapons powers. Thus, India opposed the indefinite extension of the NPT, in 1995 and also refused to sign the comprehensive Test Ban treaty (CTBT).

India conducted a series of nuclear tests in May 1998, demonstrating its capacity to use nuclear energy for military purposes. Pakistan soon followed, thereby increasing the vulnerability of the region to a nuclear exchange. The international community was extremely critical of the nuclear tests in the subcontinent and sanctions were imposed on both India and Pakistan, which were subsequently waived. India's nuclear doctrine of credible minimum nuclear deterrence professes "no first use" and reiterates India's commitment to global, verifiable and non-discriminatory nuclear disarmament leading to a nuclear weapons free world.

Who conduct a series of nuclear test in May 1998

1. India
2. Pakistan
3. China
4. Iran

Options :

485584155909. 1
485584155910. 2
485584155911. 3
485584155912. 4

Question Number : 1068 Question Id : 48558438978 Question Type : MCQ Option Shuffling : No Is Question Mandatory : No Calculator : None Response Time : N.A Think Time : N.A Minimum Instruction Time : 0

Correct Marks : 5 Wrong Marks : 1

Question Key Details :

Key	Value
Comprehension	Comp2

नीचे दिए गए अनुच्छेद को ध्यान से पढ़ें -

भारत ने परमाणु अप्रसार के लक्ष्य को ध्यान में रखकर की गई संधियों उन्हीं देशों पर लागू होने को थी जो परमाणु शक्ति से हीन थे। इन संधियों के द्वारा परमाणु हथियारों से लैस देशों की जमात के कारण परमाणु शक्ति पर एकाधिकार को वैधता दी जा रही थी। इसी कारण, 1995 में जब परमाणु-अप्रसार संधि को अनिश्चितकाल के लिए बढ़ा दिया गया तो भारत ने इसका विरोध किया और उसने व्यापक परमाणु परीक्षण प्रतिबंध संधि (कंप्रेहेंसिव टेस्ट बैन ट्रीटी - सीटीबीटी) पर भी हस्ताक्षर करने से इंकार कर दिया।

भारत ने 1998 के मई में परमाणु परीक्षण किए और यह जताया कि उसके पास सैन्य उद्देश्यों के लिए अणुशक्ति को प्रयोग में लाने की क्षमता है। इसके तुरन्त बाद पाकिस्तान ने भी परमाणु परीक्षण किए। इससे क्षेत्र में परमाणु युद्ध की आशंका को बल मिला। अन्तर्राष्ट्रीय बिरादरी भारतीय उपमहाद्वीप में हुए इस परमाणु परीक्षण को लेकर बहुत नाराज थी और उसने भारत तथा पाकिस्तान, दोनों पर कुछ प्रतिबंध लगे जिन्हें बाद में हटा लिया गया। भारत की परमाणु नीति में सैद्धांतिक तौर पर यह बात स्वीकार की गई कि भारत अपनी रक्षा के लिए परमाणु हथियार रखेगा लेकिन इन हथियारों का प्रयोग पहले नहीं करेगा। भारत की परमाणु नीति में यह बात दोहराई गई है कि भारत वैश्विक स्तर पर लागू और भेदभावहीन परमाणु निशस्त्रीकरण के प्रति वचनबद्ध है ताकि परमाणु हथियारों से मुक्त विश्व की रचना हो।

मई 1998 में किसने परमाणु परीक्षण की श्रृंखला सम्पन्न की?

1. भारत
2. पाकिस्तान
3. चीन
4. ईरान

Options :

485584155909. 1
485584155910. 2
485584155911. 3
485584155912. 4

Question Number : 1069 Question Id : 48558438979 Question Type : MCQ Option Shuffling : No Is Question Mandatory : No Calculator : None Response Time : N.A Think Time : N.A Minimum Instruction Time : 0 Correct Marks : 5 Wrong Marks : 1

Question Key Details :

Key	Value
Comprehension	Comp2

Read the following passage and answer the questions given below.

India has opposed the international treaties aimed at non-proliferation since they were selectively applicable to the non-nuclear powers and legitimised the monopoly of the five nuclear weapons powers. Thus, India opposed the indefinite extension of the NPT, in 1995 and also refused to sign the comprehensive Test Ban treaty (CTBT).

India conducted a series of nuclear tests in May 1998, demonstrating its capacity to use nuclear energy for military purposes. Pakistan soon followed, thereby increasing the vulnerability of the region to a nuclear exchange. The international community was extremely critical of the nuclear tests in the subcontinent and sanctions were imposed on both India and Pakistan, which were subsequently waived. India's nuclear doctrine of credible minimum nuclear deterrence professes "no first use" and reiterates India's commitment to global, verifiable and non-discriminatory nuclear disarmament leading to a nuclear weapons free world.

The indefinite extension of NPT is took place in the years of

1. 1995
2. 1996
3. 1968
4. 1998

Options :

485584155913. 1
485584155914. 2
485584155915. 3
485584155916. 4

Question Number : 1069 Question Id : 48558438979 Question Type : MCQ Option Shuffling : No Is Question Mandatory : No Calculator : None Response Time : N.A Think Time : N.A Minimum Instruction Time : 0 Correct Marks : 5 Wrong Marks : 1

Question Key Details :

Key	Value
Comprehension	Comp2

नीचे दिए गए अनुच्छेद को ध्यान से पढ़ें -

भारत ने परमाणु अप्रसार के लक्ष्य को ध्यान में रखकर की गई संधियों उन्हीं देशों पर लागू होने को थी जो परमाणु शक्ति से हीन थे। इन संधियों के द्वारा परमाणु हथियारों से लैस देशों की जमात के कारण परमाणु शक्ति पर एकाधिकार को वैधता दी जा रही थी। इसी कारण, 1995 में जब परमाणु-अप्रसार संधि को अनिघतकाल के लिए बढ़ा दिया गया तो भारत ने इसका विरोध किया और उसने व्यापक परमाणु परीक्षण प्रतिबंध संधि (कंप्रेहेंसिव टेस्ट बैन ट्रीटी - सीटीबीटी) पर भी हस्ताक्षर करने से इंकार कर दिया।

भारत ने 1998 के मई में परमाणु परीक्षण किए और यह जताया कि उसके पास सैन्य उद्देश्यों के लिए अणुशक्ति को प्रयोग में लाने की क्षमता है। इसके तुरन्त बाद पाकिस्तान ने भी परमाणु परीक्षण किए। इससे क्षेत्र में परमाणु युद्ध की आशंका को बल मिला। अन्तर्राष्ट्रीय विवादों भारतीय उपमहाद्वीप में हुए इस परमाणु परीक्षण को लेकर बहुत नाराज थी और उसने भारत तथा पाकिस्तान, दोनों पर कुछ प्रतिबंध लगे जिन्हें बाद में हटा लिया गया। भारत की परमाणु नीति में सैद्धांतिक तौर पर यह बात स्वीकार की गई कि भारत अपनी रक्षा के लिए परमाणु हथियार रखेगा लेकिन इन हथियारों का प्रयोग पहले नहीं करेगा। भारत की परमाणु नीति में यह बात दोहराई गई है कि भारत वैश्विक स्तर पर लागू और भेदभावहीन परमाणु निशस्तीकरण के प्रति वचनबद्ध है ताकि परमाणु हथियारों से मुक्त विश्व की रचना हो।

एन पी टी (परमाणु अप्रसार संधि) को अनिघतकाल के लिए _____ में बढ़ा दिया गया?

1. 1995
2. 1996
3. 1968
4. 1998

Options :

485584155913. 1
485584155914. 2
485584155915. 3
485584155916. 4

Question Number : 1070 Question Id : 48558438980 Question Type : MCQ Option Shuffling : No Is Question Mandatory : No Calculator : None Response Time : N.A Think Time : N.A Minimum Instruction Time : 0

Correct Marks : 5 Wrong Marks : 1

Question Key Details :

Key	Value
Comprehension	Comp2

Read the following passage and answer the questions given below.

India has opposed the international treaties aimed at non-proliferation since they were selectively applicable to the non-nuclear powers and legitimised the monopoly of the five nuclear weapons powers. Thus, India opposed the indefinite extension of the NPT, in 1995 and also refused to sign the comprehensive Test Ban treaty (CTBT).

India conducted a series of nuclear tests in May 1998, demonstrating its capacity to use nuclear energy for military purposes. Pakistan soon followed, thereby increasing the vulnerability of the region to a nuclear exchange. The international community was extremely critical of the nuclear tests in the subcontinent and sanctions were imposed on both India and Pakistan, which were subsequently waived. India's nuclear doctrine of credible minimum nuclear deterrence professes "no first use" and reiterates India's commitment to global, verifiable and non-discriminatory nuclear disarmament leading to a nuclear weapons free world.

Who opposed the indefinite extension of the NPT in 1995

1. IRAN
2. PAKISTAN
3. CHINA
4. INDIA

Options :

485584155917. 1
485584155918. 2
485584155919. 3
485584155920. 4

Question Number : 1070 Question Id : 48558438980 Question Type : MCQ Option Shuffling : No Is Question Mandatory : No Calculator : None
Response Time : N.A Think Time : N.A Minimum Instruction Time : 0
Correct Marks : 5 Wrong Marks : 1

Question Key Details :

Key	Value
Comprehension	Comp2

नीचे दिए गए अनुच्छेद को ध्यान से पढ़ें -

भारत ने परमाणु अप्रसार के लक्ष्य को ध्यान में रखकर की गई संधियों उन्हीं देशों पर लागू होने को थी जो परमाणु शक्ति से हीन थे। इन संधियों के द्वारा परमाणु हथियारों से लैस देशों की जमात के कारण परमाणु शक्ति पर एकाधिकार को वैधता दी जा रही थी। इसी कारण, 1995 में जब परमाणु-अप्रसार संधि को अनियतकाल के लिए बढ़ा दिया गया तो भारत ने इसका विरोध किया और उसने व्यापक परमाणु परीक्षण प्रतिबंध संधि (कंप्रिहेंसिव टेस्ट बैन ट्रीटी - सीटीबीटी) पर भी हस्ताक्षर करने से इंकार कर दिया।

भारत ने 1998 के मई में परमाणु परीक्षण किए और यह जताया कि उसके पास सैन्य उद्देश्यों के लिए अणुशक्ति को प्रयोग में लाने की क्षमता है। इसके तुरन्त बाद पाकिस्तान ने भी परमाणु परीक्षण किए। इससे क्षेत्र में परमाणु युद्ध की आशंका को बल मिला। अन्तर्राष्ट्रीय बिरादरी भारतीय उपमहाद्वीप में हुए इस परमाणु परीक्षण को लेकर बहुत नाराज थी और उसने भारत तथा पाकिस्तान, दोनों पर कुछ प्रतिबंध लगे जिन्हें बाद में हटा लिया गया। भारत की परमाणु नीति में सैद्धांतिक तौर पर यह बात स्वीकार की गई कि भारत अपनी रक्षा के लिए परमाणु हथियार रखेगा लेकिन इन हथियारों का प्रयोग पहले नहीं करेगा। भारत की परमाणु नीति में यह बात दोहराई गई है कि भारत वैश्विक स्तर पर लागू और भेदभावहीन परमाणु निशस्त्रीकरण के प्रति वचनबद्ध है ताकि परमाणु हथियारों से मुक्त विश्व की रचना हो।

एन पी टी (परमाणु अप्रसार संधि) के अनियतकाल के लिए बढ़ाने का विरोध किसने किया?

1. ईरान
2. पाकिस्तान
3. चीन
4. भारत

Options :

485584155917. 1
485584155918. 2
485584155919. 3
485584155920. 4

Psychology

Group Number :

Group Id : 485584903
Group Maximum Duration : 45
Group Minimum Duration : 45
Show Attended Group? : No
Edit Attended Group? : No
Break time : 0
Group Marks : 200
Is this Group for Examiner? : No
Examiner permission : Cant View
Show Progress Bar? : No

Psychology

Section Id : 4855841047
Section Number : 1
Section type : Online
Mandatory or Optional : Mandatory
Number of Questions : 50
Number of Questions to be attempted : 40
Section Marks : 200
Enable Mark as Answered Mark for Review and Clear Response : Yes
Maximum Instruction Time : 0
Sub-Section Number : 1
Sub-Section Id : 4855842961
Question Shuffling Allowed : Yes
Is Section Default? : null

Question Number : 1071 Question Id : 48558438981 Question Type : MCQ Option Shuffling : No Is Question Mandatory : No Calculator : None
Response Time : N.A Think Time : N.A Minimum Instruction Time : 0
Correct Marks : 5 Wrong Marks : 1

Question Key Details :

Key	Value
Comprehension	MCQ

_____ is an objective and standardised measure of an individuals mental and/or behavioural characteristics.

1. Intelligence
2. Case Study
3. Self-Report
4. Psychological Test

Options :

485584155921. 1
485584155922. 2
485584155923. 3
485584155924. 4

Question Number : 1071 Question Id : 48558438981 Question Type : MCQ Option Shuffling : No Is Question Mandatory : No Calculator : None
Response Time : N.A Think Time : N.A Minimum Instruction Time : 0
Correct Marks : 5 Wrong Marks : 1

Question Key Details :

Key	Value
Comprehension	MCQ

किसी व्यक्ति के मानसिक तथा अधवा व्यावहारिक लक्षणों का मानत मापन का एक उद्येश्य _____ है।

1. बुद्धि
2. वृत्त अध्ययन
3. आत्म-विवरण
4. मनोविज्ञानिक परीक्षण

Options :

485584155921. 1
485584155922. 2
485584155923. 3
485584155924. 4

Question Number : 1072 Question Id : 48558438982 Question Type : MCQ Option Shuffling : No Is Question Mandatory : No Calculator : None Response Time : N.A Think Time : N.A Minimum Instruction Time : 0

Correct Marks : 5 Wrong Marks : 1

Question Key Details :

Key	Value
Comprehension	MCQ

Rajshree is an excellent dancer with fine flexibility of body. According to the theory of multiple intelligences what skill is she high on ?

1. Bodily kinesthetic skiss
2. Interpersonal skill
3. Spotal skill
4. Intrapersonal skills

Options :

485584155925. 1
485584155926. 2
485584155927. 3
485584155928. 4

Question Number : 1072 Question Id : 48558438982 Question Type : MCQ Option Shuffling : No Is Question Mandatory : No Calculator : None Response Time : N.A Think Time : N.A Minimum Instruction Time : 0

Correct Marks : 5 Wrong Marks : 1

Question Key Details :

Key	Value
Comprehension	MCQ

राजश्री एक उत्कृष्ट नृत्यांगना है तथा शरीर अत्यंत लचीला है। बहु प्रयोजन बुद्धि के सिद्धान्त के अनुसार वह किस कौशल में उच्चता पर है।

1. शारीरीय गतिबोधक कौशल
2. अंतरव्येयकित्त कौशल
3. स्थानिक कौशल
4. अंतरव्येयकित्त कौशल

Options :

485584155925. 1
485584155926. 2

485584155927. 3

485584155928. 4

Question Number : 1073 Question Id : 48558438983 Question Type : MCQ Option Shuffling : No Is Question Mandatory : No Calculator : None
Response Time : N.A Think Time : N.A Minimum Instruction Time : 0

Correct Marks : 5 Wrong Marks : 1

Question Key Details :

Key	Value
Comprehension	MCQ

In 1905, Alfred Binet and Theodore Simon, made the first successful attempt to formally measure intelligence.
In 1912 _____ designed the concept of Intelligence Quotient (IQ)

1. J.P. Guilford
2. Alfred Binet
3. William Stern
4. Sternberg

Options :

- 485584155929. 1
- 485584155930. 2
- 485584155931. 3
- 485584155932. 4

Question Number : 1073 Question Id : 48558438983 Question Type : MCQ Option Shuffling : No Is Question Mandatory : No Calculator : None
Response Time : N.A Think Time : N.A Minimum Instruction Time : 0

Correct Marks : 5 Wrong Marks : 1

Question Key Details :

Key	Value
Comprehension	MCQ

वर्ष 1905 में अल्फ्रेड बिनै तथा थियोडोर साइमन ने बुद्धि को औपचारिक रूप से मापने का प्रथम सफल प्रयास किया। वर्ष 1912 में _____ ने बुद्धि लब्धि (IQ) की अवधारणा को अभिकल्पित किया।

1. जे.पी. गिल्फोर्ड
2. अल्फ्रेड बिनैट
3. विलियम स्टर्न
4. स्टर्नबर्ग

Options :

- 485584155929. 1
- 485584155930. 2
- 485584155931. 3
- 485584155932. 4

Question Number : 1074 Question Id : 48558438984 Question Type : MCQ Option Shuffling : No Is Question Mandatory : No Calculator : None
Response Time : N.A Think Time : N.A Minimum Instruction Time : 0

Correct Marks : 5 Wrong Marks : 1

Question Key Details :

Key	Value
Comprehension	MCQ

Ayush has a own start-up, which has grown successful over a short period of time. This is because of his commitment, persistence, patience, hard work, vigilance and goal directed behaviour. According to the India traditional view of intelligence Ayush has _____.

1. Cognitive capacity
2. Social competence
3. Emotional competence
4. Entrepreneurial competence

Options :

485584155933. 1
485584155934. 2
485584155935. 3
485584155936. 4

Question Number : 1074 Question Id : 48558438984 Question Type : MCQ Option Shuffling : No Is Question Mandatory : No Calculator : None
Response Time : N.A Think Time : N.A Minimum Instruction Time : 0
Correct Marks : 5 Wrong Marks : 1

Question Key Details :

Key	Value
Comprehension	MCQ

आयुष का निजी व्यवसाय है जो अल्प समय में ही सफलता, पूर्वक उन्नत हुआ है। .इ उसके प्रतिबद्धता, दृढ़ता, धैर्य, मेहनत, सतर्कता तथा, लक्ष्य-उन्मुख व्यवहार के कारण है। बुद्धि के भारतीय परम्परागत विचार के अनुसार आयुष के पास _____ है

1. ज्ञानात्मक क्षमता
2. सामाजिक योग्यता
3. संवेदात्मक योग्यता
4. उद्यमीय योग्यता

Options :

485584155933. 1
485584155934. 2
485584155935. 3
485584155936. 4

Question Number : 1075 Question Id : 48558438985 Question Type : MCQ Option Shuffling : No Is Question Mandatory : No Calculator : None
Response Time : N.A Think Time : N.A Minimum Instruction Time : 0
Correct Marks : 5 Wrong Marks : 1

Question Key Details :

Key	Value
Comprehension	MCQ

The intelligence of identical twins reared in different environments correlate about

1. .90
2. .72
3. .60
4. .50

Options :

485584155937. 1

485584155938. 2
485584155939. 3
485584155940. 4

Question Number : 1075 Question Id : 48558438985 Question Type : MCQ Option Shuffling : No Is Question Mandatory : No Calculator : None
Response Time : N.A Think Time : N.A Minimum Instruction Time : 0
Correct Marks : 5 Wrong Marks : 1

Question Key Details :

Key	Value
Comprehension	MCQ

हमशकल जुड़वाँ बच्चे जिनका पालन पोषण विभिन्न पर्यावरणों में हुआ हो, उनकी बुद्धि का सहसम्बन्ध लगभग _____ होता

1. .90
2. .72
3. .60
4. .50

Options :

485584155937. 1
485584155938. 2
485584155939. 3
485584155940. 4

Question Number : 1076 Question Id : 48558438986 Question Type : MCQ Option Shuffling : No Is Question Mandatory : No Calculator : None
Response Time : N.A Think Time : N.A Minimum Instruction Time : 0
Correct Marks : 5 Wrong Marks : 1

Question Key Details :

Key	Value
Comprehension	MCQ

Robert Sternberg proposed the technical theory of intelligence:

- A. He conceptualised three intelligences.
- B. It was proposed in 1950.
- C. He defined intelligence as the ability to judge well, understand well and reason well.
- D. Componential intelligence also refers to the traditional notion of intelligence.
- E. Contextual intelligence refers to practical intelligence, known as 'Street Smart'.

Choose the correct answer from the options given below:

1. A, C and D only
2. A, D and E only
3. B, D and E only
4. A, B and E only

Options :

485584155941. 1
485584155942. 2
485584155943. 3
485584155944. 4

Question Number : 1076 Question Id : 48558438986 Question Type : MCQ Option Shuffling : No Is Question Mandatory : No Calculator : None
Response Time : N.A Think Time : N.A Minimum Instruction Time : 0
Correct Marks : 5 Wrong Marks : 1

Question Key Details :

Key	Value
Comprehension	MCQ

रॉबर्ट स्टेनबर्ग ने बुद्धि के त्रितंत्र सिद्धान्त का प्रतिपादन किया।

- उसने तीन प्रकार की बुद्धि की अवधारणा दी।
- यह वर्ष 1950 में प्रतिपादन किया गया।
- उसने बुद्धि को थली प्रकार से निर्णय लेने, समझने तथा कारण देने की क्षमता के रूप में परिभाषित किया।
- संघटकौष बुद्धि थी बुद्धि के परंपरागत विचार के संदर्भ में है।
- विषयगत बुद्धि, व्यावहारिक बुद्धि के संदर्भ में है जिसे 'स्ट्रीट स्मार्ट' के नाम से जाना जाता है।

नीचे दिए गए विकल्पों में से सही उत्तर का चयन कीजिए।

- केवल A, C, D
- केवल A, D, E
- केवल B, D, E
- केवल A, B, E

Options :

485584155941. 1

485584155942. 2

485584155943. 3

485584155944. 4

Question Number : 1077 Question Id : 48558438987 Question Type : MCQ Option Shuffling : No Is Question Mandatory : No Calculator : None Response Time : N.A Think Time : N.A Minimum Instruction Time : 0

Correct Marks : 5 Wrong Marks : 1

Question Key Details :

Key	Value
Comprehension	MCQ

Match List I with List II

LIST I		LIST II	
A.	Unit factor theory	I.	J.P. Guilford
B.	Two-factor theory	II.	Alfred Binet
C.	Hierarchical Model	III.	Charles Spearman
D.	Structure of Intellect Model	IV.	Arthur Jensen

Choose the correct answer from the options given below:

- A-I, B-II, C-III, D-IV
- A-IV, B-II, C-III, D-I
- A-II, B-III, C-IV, D-I
- A-III, B-IV, C-I, D-II

Options :

485584155945. 1

485584155946. 2

485584155947. 3

485584155948. 4

Question Number : 1077 Question Id : 48558438987 Question Type : MCQ Option Shuffling : No Is Question Mandatory : No Calculator : None Response Time : N.A Think Time : N.A Minimum Instruction Time : 0

Correct Marks : 5 Wrong Marks : 1

Question Key Details :

Key	Value
Comprehension	MCQ

सूची I का सूची II से मिलान कीजिए

सूची I		सूची II	
A.	एक-कारक सिद्धान्त	I.	जे.पी.गिल्फर्ड
B.	द्वि-कारक सिद्धान्त	II.	अल्फ्रेड बिने
C.	श्रेणीबद्धता का मॉडल	III.	चार्ल्स स्पियरमैन
D.	बुद्धि की संरचना का मॉडल	IV.	आर्थर जैन्सन

निम्नलिखित विकल्पों में से सही उत्तर का चयन कीजिए :

1. A-I, B-II, C-III, D-IV
2. A-IV, B-II, C-III, D-I
3. A-II, B-III, C-IV, D-I
4. A-III, B-IV, C-I, D-II

Options :

485584155945. 1
485584155946. 2
485584155947. 3
485584155948. 4

Question Number : 1078 Question Id : 48558438988 Question Type : MCQ Option Shuffling : No Is Question Mandatory : No Calculator : None
Response Time : N.A Think Time : N.A Minimum Instruction Time : 0
Correct Marks : 5 Wrong Marks : 1

Question Key Details :

Key	Value
Comprehension	MCQ

Rohan works in a multi-national company in the U.S. and in order to avoid racism, he makes everyone call him Ronnie. Identify the aspect of self he is trying to hide:

1. Familial self
2. Social identity
3. Personal identity
4. Moral self

Options :

485584155949. 1
485584155950. 2
485584155951. 3
485584155952. 4

Question Number : 1078 Question Id : 48558438988 Question Type : MCQ Option Shuffling : No Is Question Mandatory : No Calculator : None
Response Time : N.A Think Time : N.A Minimum Instruction Time : 0
Correct Marks : 5 Wrong Marks : 1

Question Key Details :

Key	Value
Comprehension	MCQ

रोहन अमरीका की एक बहु-राष्ट्रीय कंपनी में कार्य करता है। तथा नस्लवाद से बचने के लिए वह सभी से स्वयं को रॉनी पुकारने के लिए कहता है। वह अपने स्व के किस पहलू को छिपाने का प्रयास कर रहा है?

1. पारिवारिक पहचान
2. सामाजिक पहचान
3. व्यक्तिगत पहचान
4. नैतिक स्व

Options :

485584155949. 1

485584155950. 2

485584155951. 3

485584155952. 4

Question Number : 1079 Question Id : 48558438989 Question Type : MCQ Option Shuffling : No Is Question Mandatory : No Calculator : None Response Time : N.A Think Time : N.A Minimum Instruction Time : 0

Correct Marks : 5 Wrong Marks : 1

Question Key Details :

Key	Value
Comprehension	MCQ

"I love to wear western clothes" is an example of which dimension of trait according to Allport's trait theory?

1. Cardinal trait
2. Central trait
3. Secondary trait
4. Tertiary trait

Options :

485584155953. 1

485584155954. 2

485584155955. 3

485584155956. 4

Question Number : 1079 Question Id : 48558438989 Question Type : MCQ Option Shuffling : No Is Question Mandatory : No Calculator : None Response Time : N.A Think Time : N.A Minimum Instruction Time : 0

Correct Marks : 5 Wrong Marks : 1

Question Key Details :

Key	Value
Comprehension	MCQ

"मैं पाश्चात्य वस्त्रों को पहचानना पसंद करता हूँ" ऑलपोर्ट सिद्धान्त के अनुसार यह लक्षणों के किस आयाम का उदाहरण है?

1. प्रधान लक्षण
2. केन्द्रीय लक्षण
3. द्वितीयक लक्षण
4. तृतीयक लक्षण

Options :

485584155953. 1

485584155954. 2

485584155955. 3
485584155956. 4

Question Number : 1080 Question Id : 48558438990 Question Type : MCQ Option Shuffling : No Is Question Mandatory : No Calculator : None
Response Time : N.A Think Time : N.A Minimum Instruction Time : 0
Correct Marks : 5 Wrong Marks : 1

Question Key Details :

Key	Value
Comprehension	MCQ

Match List I with List II

LIST I		LIST II	
A.	Tested as a tool for psychological diagnosis	I.	EPQ (Eysenck Personality Questionnaire)
B.	Self report measure	II.	Rorschach Inkblot Test
C.	Used for career guidance	III.	MMPI (Minnesota Multiphasic Personality Test)
D.	Conducted in two phases - performance proper and inquiry	IV.	16PF (Sixteen Personality Factors)

Choose the correct answer from the options given below:

1. A-III, B-I, C-IV, D-II
2. A-I, B-III, C-IV, D-II
3. A-III, B-IV, C-I, D-II
4. A-I, B-II, C-IV, D-III

Options :

485584155957. 1
485584155958. 2
485584155959. 3
485584155960. 4

Question Number : 1080 Question Id : 48558438990 Question Type : MCQ Option Shuffling : No Is Question Mandatory : No Calculator : None
Response Time : N.A Think Time : N.A Minimum Instruction Time : 0

Correct Marks : 5 Wrong Marks : 1

Question Key Details :

Key	Value
Comprehension	MCQ

सूची I का सूची II से मिलान कीजिए

सूची I		सूची II	
A.	मनोचिकित्सकीय निदानों के लिए एक उपकरण के तौर पर परिक्षण किया गया	I.	EPQ (आईसीक की व्यक्तित्व प्रश्नावली)
B.	मापक आत्म-विवरण	II.	रोशॉ का इंकब्लॉट परीक्षण (स्याही के धब्बे)
C.	जीविका मार्गदर्शन के लिए उपयोग किया गया	III.	MMPI (मिनेसोटा मल्टीफैसिक व्यक्तित्व परीक्षण)
D.	दो अवस्थाओं-निष्पादन तथा अन्वेषण में संचालित किया गया	IV.	16 PF (16 व्यक्तित्व कारक)

निम्नलिखित विकल्पों में से सही उत्तर का चयन कीजिए :

1. A-III, B-I, C-IV, D-II
2. A-I, B-III, C-IV, D-II
3. A-III, B-IV, C-I, D-II
4. A-I, B-II, C-IV, D-III

Options :

485584155957. 1
485584155958. 2
485584155959. 3
485584155960. 4

Question Number : 1081 Question Id : 48558438991 Question Type : MCQ Option Shuffling : No Is Question Mandatory : No Calculator : None Response Time : N.A Think Time : N.A Minimum Instruction Time : 0

Correct Marks : 5 Wrong Marks : 1

Question Key Details :

Key	Value
Comprehension	MCQ

If you have a feeling that you must do everything perfectly and get stressed when it does not happen, then such beliefs are result of:

1. Frustration
2. Conflict
3. Internal pressures
4. Social pressures

Options :

485584155961. 1
485584155962. 2
485584155963. 3
485584155964. 4

Question Number : 1081 Question Id : 48558438991 Question Type : MCQ Option Shuffling : No Is Question Mandatory : No Calculator : None Response Time : N.A Think Time : N.A Minimum Instruction Time : 0

Correct Marks : 5 Wrong Marks : 1

Question Key Details :

Key	Value
Comprehension	MCQ

यदि आप ऐसा महसूस करते हैं कि आप को सब कुछ श्रेष्ठता के साथ सम्पन्न करना है और ऐसा ही पाने पर आप तनाव में चले जाते हैं, तो ऐसे विचार निम्न में से किसका परिणाम हैं?

1. कुंठा
2. संघर्ष
3. आंतरिक दबाव
4. सामाजिक दबाव

Options :

485584155961. 1
485584155962. 2
485584155963. 3
485584155964. 4

Question Number : 1082 Question Id : 48558438992 Question Type : MCQ Option Shuffling : No Is Question Mandatory : No Calculator : None Response Time : N.A Think Time : N.A Minimum Instruction Time : 0

Correct Marks : 5 Wrong Marks : 1

Question Key Details :

Key	Value
Comprehension	MCQ

According to the GAS (General Adaptation System), the stage one will experience the activation of the adrenal pituitary cortex system for fight or flight?

1. Resistance Stage
2. Exhaustion Stage
3. Alarm Reaction Stage
4. Burnout

Options :

485584155965. 1
485584155966. 2
485584155967. 3
485584155968. 4

Question Number : 1082 Question Id : 48558438992 Question Type : MCQ Option Shuffling : No Is Question Mandatory : No Calculator : None Response Time : N.A Think Time : N.A Minimum Instruction Time : 0

Correct Marks : 5 Wrong Marks : 1

Question Key Details :

Key	Value
Comprehension	MCQ

सामान्य अनुकूलन व्यवस्था मॉडल (GAS) के अनुसार कोई व्यक्ति किस अवस्था में अवस्था में एड्रीनल पीपुष ग्रन्थि के सक्रियण संघर्ष करने या भाग के लिए कॉर्टिस पद्धति का अनुभव करेंगे?

1. प्रतिरोध अवस्था
2. परिश्रत अवस्था
3. सतर्क अभिक्रिया अवस्था
4. क्षतिग्रस्तथा

Options :

485584155965. 1

485584155966.2

485584155967.3

485584155968.4

Question Number : 1083 Question Id : 48558438993 Question Type : MCQ Option Shuffling : No Is Question Mandatory : No Calculator : None
Response Time : N.A Think Time : N.A Minimum Instruction Time : 0

Correct Marks : 5 Wrong Marks : 1

Question Key Details :

Key	Value
Comprehension	MCQ

Pawan could not get admission in the college of his choice as he could not qualify the entrance exam. He is facing:

1. Conflicts
2. Frustration
3. Internal Pressure
4. Social Pressure

Options :

485584155969.1

485584155970.2

485584155971.3

485584155972.4

Question Number : 1083 Question Id : 48558438993 Question Type : MCQ Option Shuffling : No Is Question Mandatory : No Calculator : None
Response Time : N.A Think Time : N.A Minimum Instruction Time : 0

Correct Marks : 5 Wrong Marks : 1

Question Key Details :

Key	Value
Comprehension	MCQ

पवन अपनी पसंद के कॉलेज में दाखिल नहीं हो पाया क्योंकि वह प्रवेश परीक्षा में उत्तरीर्ण नहीं हो पाया। वह किसका सामना कर रहा है?

1. संघर्ष
2. कुंठा
3. आंतरिक दबाव
4. सामाजिक दबाव

Options :

485584155969.1

485584155970.2

485584155971.3

485584155972.4

Question Number : 1084 Question Id : 48558438994 Question Type : MCQ Option Shuffling : No Is Question Mandatory : No Calculator : None
Response Time : N.A Think Time : N.A Minimum Instruction Time : 0

Correct Marks : 5 Wrong Marks : 1

Question Key Details :

Key	Value
Comprehension	MCQ

Arrange the following sentences as per the Cognitive Theory of Stress given by Lazarus:

- A. The appraisals are very subjective and will depend on past experiences of the subject.
- B. The perception of stress depends on the individual cognitive approach of events and resources available to deal with them.
- C. Primary appraisal refers to the perception of a new or changing environment as positive, neutral or negative in its consequences.
- D. When we perceive an event as stressful, we are likely to make a secondary appraisal.
- E. Lazarus distinguished between two types of appraisals.

Choose the correct answer from the options given below:

- 1. B, E, D, C, A
- 2. B, C, E, A, D
- 3. B, E, C, D, A
- 4. A, B, C, D, E

Options :

485584155973. 1

485584155974. 2

485584155975. 3

485584155976. 4

Question Number : 1084 Question Id : 48558438994 Question Type : MCQ Option Shuffling : No Is Question Mandatory : No Calculator : None

Response Time : N.A Think Time : N.A Minimum Instruction Time : 0

Correct Marks : 5 Wrong Marks : 1

Question Key Details :

Key	Value
Comprehension	MCQ

लेजेरस द्वारा दिए गए तनाव के बोधात्मक विद्वधान्त के अनुसार निम्न कथनों को व्यवस्थित करें।

- A. कार्य का मूल्यांकन बहुत व्यक्तिपरक है और वह व्यक्ति के पूर्व अनुभवों पर निर्भर करता है।
- B. तनाव का बोध घटनाओं के व्यक्तिगत बोधात्मक मूल्यांकन तथा उपलब्ध संसाधनों द्वारा उसने निपटाने पर निर्भर करता है।
- C. कार्य का प्राथमिक मूल्यांकन, किसी नर या परिवर्तनशील वातावरण के सकारात्मक, उदासिन या नकारात्मक परिणामों के बोध के संदर्भ में है।
- D. जब हम किसी घटना को तनावपूर्ण मानते हैं तो हम कार्य का द्वितीयक मूल्यांकन कर सकते हैं।
- E. लेजेरस ने दोनों प्रकार के कार्य के मूल्यांकनों में विभेद किया।

नीचे दिए गए विकल्पों में से सही उत्तर का चयन कीजिए:

- 1. B, E, D, C, A
- 2. B, C, E, A, D
- 3. B, E, C, D, A
- 4. A, B, C, D, E

Options :

485584155973. 1

485584155974. 2

485584155975. 3

485584155976. 4

Question Number : 1085 Question Id : 48558438995 Question Type : MCQ Option Shuffling : No Is Question Mandatory : No Calculator : None

Response Time : N.A Think Time : N.A Minimum Instruction Time : 0

Correct Marks : 5 Wrong Marks : 1

Question Key Details :

Key	Value
Comprehension	MCQ

Identify the statements which reflect coping strategies given by Endler and Parker.

- A. I am able to schedule my time better.
- B. I fall sick immediately.
- C. I express emotions openly and directly.
- D. I accept situations that cannot be altered.
- E. I hate myself.

Choose the correct answer from the options given below:

- 1. A, E, C only
- 2. A, B, C only
- 3. A, C, D only
- 4. A, E, B only

Options :

- 485584155977. 1
- 485584155978. 2
- 485584155979. 3
- 485584155980. 4

Question Number : 1085 Question Id : 48558438995 Question Type : MCQ Option Shuffling : No Is Question Mandatory : No Calculator : None

Response Time : N.A Think Time : N.A Minimum Instruction Time : 0

Correct Marks : 5 Wrong Marks : 1

Question Key Details :

Key	Value
Comprehension	MCQ

एंडलर तथा पार्कर द्वारा दिए गए उन कथनों को पहचानें जिनमें पराभूत करने की रणनीतियों की झलक मिलती है।

- A. मैं अपने समय को बेहतर ढंग से नियोजित कर सकता हूँ।
- B. मैं तुरंत बीमार पड़ जाता हूँ
- C. मैं अपनी संवेदनाओं को मुक्त तथा प्रत्यक्ष रूप से अभिव्यक्त करता हूँ
- D. मैं उन स्थितियों को स्वीकार कर लेता हूँ जिन्हें बदला नहीं जा सकता
- E. मैं स्वयं से घृणा करता हूँ

नीचे दिए विकल्पों में से सही उत्तर का चयन कीजिए:

- 1. केवल A, E, C
- 2. केवल A, B, C
- 3. केवल A, C, D
- 4. केवल A, E, B

Options :

- 485584155977. 1
- 485584155978. 2
- 485584155979. 3
- 485584155980. 4

Question Number : 1086 Question Id : 48558438996 Question Type : MCQ Option Shuffling : No Is Question Mandatory : No Calculator : None

Response Time : N.A Think Time : N.A Minimum Instruction Time : 0

Correct Marks : 5 Wrong Marks : 1

Question Key Details :

Key	Value
Comprehension	MCQ

Aahana suffers from evaluation anxiety and develops 'Writer's Cramp' before an examination. MRIs and X-rays reveal no physical cause. This is an example of _____.

1. Somatic symptoms disorder
2. Illness anxiety disorder
3. Somatoform disorder
4. Conversion disorder

Options :

485584155981. 1
485584155982. 2
485584155983. 3
485584155984. 4

Question Number : 1086 Question Id : 48558438996 Question Type : MCQ Option Shuffling : No Is Question Mandatory : No Calculator : None Response Time : N.A Think Time : N.A Minimum Instruction Time : 0

Correct Marks : 5 Wrong Marks : 1

Question Key Details :

Key	Value
Comprehension	MCQ

आहाना मूल्यांकन व्यग्रता से ग्रस्त है तथा परीक्षा से पहले उसमें लेखक क्लिष्टता विकसित हो जाती है। एम. आर. आई. तथा X-किरणों द्वारा कोई शारीरिक कारण पता नहीं चला। यह निम्न में से किसका उदाहरण है?

1. कायिक लक्षण विकार
2. रोग दुश्चिन्ता विकार
3. कायिकरूप विकार
4. संपरिवर्तन विकार

Options :

485584155981. 1
485584155982. 2
485584155983. 3
485584155984. 4

Question Number : 1087 Question Id : 48558438997 Question Type : MCQ Option Shuffling : No Is Question Mandatory : No Calculator : None Response Time : N.A Think Time : N.A Minimum Instruction Time : 0

Correct Marks : 5 Wrong Marks : 1

Question Key Details :

Key	Value
Comprehension	MCQ

Identify which one of the following is an example of delusion of grandeur?

1. Sumita thinks that aliens are contacting her.
2. Mona thinks she is a world famous singer.
3. Raj thinks his food is poisoned.
4. Sumaina thinks that the news anchor is conveying message of aliens.

Options :

485584155985. 1

485584155986. 2

485584155987. 3

485584155988. 4

Question Number : 1087 Question Id : 48558438997 Question Type : MCQ Option Shuffling : No Is Question Mandatory : No Calculator : None

Response Time : N.A Think Time : N.A Minimum Instruction Time : 0

Correct Marks : 5 Wrong Marks : 1

Question Key Details :

Key	Value
Comprehension	MCQ

निम्नलिखित में से कौन विराटता की भ्रान्ति का उदाहरण है?

1. सुनीता सोचती है कि अन्यदेशी उससे संबंध स्थापित कर रहे हैं।
2. मीना सोचती है कि वह क विश्व प्रसिद्ध गायिका है।
3. राज सोचता है कि उसका भोजन विभाक्त है।
4. सुनयना सोचती है कि समाचार एकर अन्यदेशियों के विषय में संदेश दे रहा है।

Options :

485584155985. 1

485584155986. 2

485584155987. 3

485584155988. 4

Question Number : 1088 Question Id : 48558438998 Question Type : MCQ Option Shuffling : No Is Question Mandatory : No Calculator : None

Response Time : N.A Think Time : N.A Minimum Instruction Time : 0

Correct Marks : 5 Wrong Marks : 1

Question Key Details :

Key	Value
Comprehension	MCQ

Ravi snatched the ice cream out of the hand of a child in junior school. This is an example of _____ aggression.

1. Verbal
2. Physical
3. Hostile
4. Proactive

Options :

485584155989. 1

485584155990. 2

485584155991. 3

485584155992. 4

Question Number : 1088 Question Id : 48558438998 Question Type : MCQ Option Shuffling : No Is Question Mandatory : No Calculator : None

Response Time : N.A Think Time : N.A Minimum Instruction Time : 0

Correct Marks : 5 Wrong Marks : 1

Question Key Details :

Key	Value
Comprehension	MCQ

रवि ने छोटे बच्चों के स्कूल में किसी बच्चे के हाथ से आइसक्रीम छीन ली। यह _____ आक्रमण का एक उदाहरण है।

1. शाब्दिक
2. शारिरिक
3. प्रतिकूलता-शत्रुता
4. अग्रसक्रियता

Options :

485584155989. 1
485584155990. 2
485584155991. 3
485584155992. 4

Question Number : 1089 Question Id : 48558438999 Question Type : MCQ Option Shuffling : No Is Question Mandatory : No Calculator : None Response Time : N.A Think Time : N.A Minimum Instruction Time : 0 Correct Marks : 5 Wrong Marks : 1

Question Key Details :

Key	Value
Comprehension	MCQ

Hema was very particular about setting the objects like furniture, decorative pieces, utensils etc. in her house in a certain way. She would feel very disturbed and stressed if the objects were not placed in an orderly manner. She may be showing:

1. Separation Anxiety Disorder
2. Obsessive Compulsion Disorder
3. Somatic Symptom Disorder
4. Specific Phobias

Options :

485584155993. 1
485584155994. 2
485584155995. 3
485584155996. 4

Question Number : 1089 Question Id : 48558438999 Question Type : MCQ Option Shuffling : No Is Question Mandatory : No Calculator : None Response Time : N.A Think Time : N.A Minimum Instruction Time : 0 Correct Marks : 5 Wrong Marks : 1

Question Key Details :

Key	Value
Comprehension	MCQ

हेमा अपने घर में वस्तुओं जैसे फर्नीचर, सजावटी सामान, वर्तनों आदि को एक निश्चित तरीके से व्यवस्थित करके रखते के विषय में बहुत सावधान थी। यदि सामान सही ढंग से व्यवस्थित तरीके से नहीं रखा होता तो वह बहुत परेशान तथा तनावग्रस्त हो जाती थी। वह क्या दर्शा रही होगी?

1. विद्युक्ति दुर्धिता विकार
2. मनोग्रस्ति संबंधी बाध्यकारी विकार
3. क्रायिक लक्षण विकार
4. विशिष्ट भय

Options :

485584155993. 1
485584155994. 2
485584155995. 3
485584155996. 4

Question Number : 1090 Question Id : 48558439000 Question Type : MCQ Option Shuffling : No Is Question Mandatory : No Calculator : None
Response Time : N.A Think Time : N.A Minimum Instruction Time : 0

Correct Marks : 5 Wrong Marks : 1

Question Key Details :

Key	Value
Comprehension	MCQ

According to the organic approach, abnormal behaviour occurs when:

1. there is a conflict between emotion and reason
2. there is an imbalance in the four essential body fluids
3. body and brain is not working properly
4. evil resides in the individual

Options :

485584155997. 1
485584155998. 2
485584155999. 3
485584156000. 4

Question Number : 1090 Question Id : 48558439000 Question Type : MCQ Option Shuffling : No Is Question Mandatory : No Calculator : None
Response Time : N.A Think Time : N.A Minimum Instruction Time : 0

Correct Marks : 5 Wrong Marks : 1

Question Key Details :

Key	Value
Comprehension	MCQ

जैविक उपागम के अनुसार सामान्य व्यवहार तब होता है जब _____

1. संवेदनाओं तथा कारण बीच संघर्ष होता है।
2. शरीर के चार अनिवार्य द्रव्यों में असंतुलन होता है।
3. शरीर तथा मस्तिष्क उचित रूप से कार्य नहीं कर रहे होते।
4. व्यक्ति में कोई दुष्टात्मा निवास करती है।

Options :

485584155997. 1
485584155998. 2
485584155999. 3
485584156000. 4

Question Number : 1091 Question Id : 48558439001 Question Type : MCQ Option Shuffling : No Is Question Mandatory : No Calculator : None
Response Time : N.A Think Time : N.A Minimum Instruction Time : 0

Correct Marks : 5 Wrong Marks : 1

Question Key Details :

Key	Value
Comprehension	MCQ

Identify the disorder in children where the behaviour by parents and teachers as 'driven by a motor'.

1. ODD (Oppositional Defiant Disorder)
2. ADHD (Attention Deficit Hyperactivity Disorder)
3. ASD (Autism Spectrum Disorder)
4. SLD (Specific Learning Disorder)

Options :

- 485584156001. 1
- 485584156002. 2
- 485584156003. 3
- 485584156004. 4

Question Number : 1091 Question Id : 48558439001 Question Type : MCQ Option Shuffling : No Is Question Mandatory : No Calculator : None Response Time : N.A Think Time : N.A Minimum Instruction Time : 0 Correct Marks : 5 Wrong Marks : 1

Question Key Details :

Key	Value
Comprehension	MCQ

बच्चों में उस विकार की पहचान करें जहाँ अभिभावक तथा शिक्षक उनके व्यवहार को किसी प्रेरक संवाचित कहकर उसका विवरण देता है।

1. ODD (प्रतिरोध विद्रोही विकार)
2. ADHD (एकाग्रता न्यून अतिक्रियाशीलता विकार)
3. ASD (स्वलीनता स्पेक्ट्रम विकार)
4. SLD (विशिष्ट अधिगम विकार)

Options :

- 485584156001. 1
- 485584156002. 2
- 485584156003. 3
- 485584156004. 4

Question Number : 1092 Question Id : 48558439002 Question Type : MCQ Option Shuffling : No Is Question Mandatory : No Calculator : None Response Time : N.A Think Time : N.A Minimum Instruction Time : 0 Correct Marks : 5 Wrong Marks : 1

Question Key Details :

Key	Value
Comprehension	MCQ

Rani feels excessive guilt for her performance in her career, which is making her unable to carry daily activities in a constructive manner. Psychiatrists have diagnosed her with depression. Select from the given list, which is NOT a factor predisposing towards depression.

1. Genetic make-up
2. Age
3. Gender
4. Alopecia

Options :

- 485584156005. 1
- 485584156006. 2

485584156007. 3
485584156008. 4

Question Number : 1092 Question Id : 48558439002 Question Type : MCQ Option Shuffling : No Is Question Mandatory : No Calculator : None
Response Time : N.A Think Time : N.A Minimum Instruction Time : 0
Correct Marks : 5 Wrong Marks : 1

Question Key Details :

Key	Value
Comprehension	MCQ

अपने कार्य में निष्पादन के लिए रानी को अत्याधिक अपराधबोध होत है जो उसकी दैनिक क्रियाओं को रचनात्मक रूप से नहीं करने देता। मनोवैज्ञानिकों ने उसे अवसादन से ग्रस्त बताया।

निम्नलिखित में से उस कारक का चयन करें जो अवसादन के लिए एक पूर्ववृत्ति नहीं है।

1. आनुवंशिक सुधार
2. आयु
3. लिंग
4. असंगतता

Options :

485584156005. 1
485584156006. 2
485584156007. 3
485584156008. 4

Question Number : 1093 Question Id : 48558439003 Question Type : MCQ Option Shuffling : No Is Question Mandatory : No Calculator : None
Response Time : N.A Think Time : N.A Minimum Instruction Time : 0
Correct Marks : 5 Wrong Marks : 1

Question Key Details :

Key	Value
Comprehension	MCQ

International Classification of Disease (ICD-10) is prepared by the _____.

1. American Psychiatric Association
2. World health Organisation
3. American Psychological Association
4. National Council of Educational Research and Training

Options :

485584156009. 1
485584156010. 2
485584156011. 3
485584156012. 4

Question Number : 1093 Question Id : 48558439003 Question Type : MCQ Option Shuffling : No Is Question Mandatory : No Calculator : None
Response Time : N.A Think Time : N.A Minimum Instruction Time : 0

Correct Marks : 5 Wrong Marks : 1

Question Key Details :

Key	Value
Comprehension	MCQ

रोगों के अंतर्राष्ट्रीय वर्गीकरण (ICD-10) को किसने तैयार किया।

1. अमरीकी मनोचिकित्सा संस्था
2. विश्व स्वास्थ्य संगठन
3. अमरीकी मनोविज्ञानिक संस्था
4. राष्ट्रीय शैक्षिक अनुसंधान तथा प्रशिक्षण परिषद

Options :

485584156009. 1
485584156010. 2
485584156011. 3
485584156012. 4

Question Number : 1094 Question Id : 48558439004 Question Type : MCQ Option Shuffling : No Is Question Mandatory : No Calculator : None
Response Time : N.A Think Time : N.A Minimum Instruction Time : 0
Correct Marks : 5 Wrong Marks : 1

Question Key Details :

Key	Value
Comprehension	MCQ

Whenever Jessica enters the airplane, she experiences palpitations, choking, nausea and discomfort despite having travelled multiple times by air. Jessica maybe experiencing the disorder called:

1. Schizophrenia
2. Post-traumatic Stress Disorder
3. Panic Disorder
4. Dementia

Options :

485584156013. 1
485584156014. 2
485584156015. 3
485584156016. 4

Question Number : 1094 Question Id : 48558439004 Question Type : MCQ Option Shuffling : No Is Question Mandatory : No Calculator : None
Response Time : N.A Think Time : N.A Minimum Instruction Time : 0
Correct Marks : 5 Wrong Marks : 1

Question Key Details :

Key	Value
Comprehension	MCQ

विमान द्वारा अनेक बार यात्रा करने के बावजूद भी जैसिका जैसे ही विमान में प्रवेश करती है उसे धड़कन बढ़ना, मितली, श्वासावरोध तथा असुविधा का अनुभव होता है। हो सकता है कि जैसिका को _____ विकार है।

1. मनोविदलता
2. पक्ष-अभिघातीय तनाव विकृति
3. संक्रास विकृति
4. दिस्मृति

Options :

485584156013. 1
485584156014. 2

485584156015. 3
485584156016. 4

Question Number : 1095 Question Id : 48558439005 Question Type : MCQ Option Shuffling : No Is Question Mandatory : No Calculator : None
Response Time : N.A Think Time : N.A Minimum Instruction Time : 0
Correct Marks : 5 Wrong Marks : 1
Question Key Details :

Key	Value
Comprehension	MCQ

Identify the features of psychological disorders:

- A. Deviant
- B. Dependent
- C. Distress
- D. Distraction
- E. Danger

Choose the correct answer from the options given below:

- 1. A, B, C
- 2. A, C, E
- 3. B, C, D
- 4. D, A, B

Options :

- 485584156017. 1
- 485584156018. 2
- 485584156019. 3
- 485584156020. 4

Question Number : 1095 Question Id : 48558439005 Question Type : MCQ Option Shuffling : No Is Question Mandatory : No Calculator : None
Response Time : N.A Think Time : N.A Minimum Instruction Time : 0
Correct Marks : 5 Wrong Marks : 1
Question Key Details :

Key	Value
Comprehension	MCQ

मनोवैज्ञानिक विकृतियों के लक्षणों की पहचान करें।

- A. विसामान्य व्यक्ति
- B. निर्भरता
- C. व्यथा
- D. विमनस्कता
- E. खतरा

नीचे दिए गए विकल्पों में से सही उत्तर का चयन कीजिए-

- 1. A, B, C
- 2. A, C, E
- 3. B, C, D
- 4. D, A, B

Options :

- 485584156017. 1
- 485584156018. 2
- 485584156019. 3

485584156020. 4

Question Number : 1096 Question Id : 48558439006 Question Type : MCQ Option Shuffling : No Is Question Mandatory : No Calculator : None
Response Time : N.A Think Time : N.A Minimum Instruction Time : 0
Correct Marks : 5 Wrong Marks : 1

Question Key Details :

Key	Value
Comprehension	MCQ

Identify the Anxiety Disorder's from the options given below:

- A. Trauma and stress or related disorder
- B. Specific Phobia
- C. Obsessive - compulsive and related disorder
- D. Separation anxiety disorder
- E. Panic Disorder

Choose the correct answer from the options given below:

- 1. A, C, E only
- 2. A, C, B only
- 3. B, D, E only
- 4. C, D, E only

Options :

- 485584156021. 1
- 485584156022. 2
- 485584156023. 3
- 485584156024. 4

Question Number : 1096 Question Id : 48558439006 Question Type : MCQ Option Shuffling : No Is Question Mandatory : No Calculator : None
Response Time : N.A Think Time : N.A Minimum Instruction Time : 0
Correct Marks : 5 Wrong Marks : 1

Question Key Details :

Key	Value
Comprehension	MCQ

नीचे दिए गए विकल्पों में से दुर्खिता विकृतियों की पहचान करें।

- A. अभिघात तथा बलाघात संबंधी विकृति
- B. विसिष्ट भय
- C. मनोप्रति संबंधी बाध्यकारी विकार
- D. वियुक्ति दुर्खिता विकार
- E. संत्रास विकृति

नीचे दिए गए विकल्पों में से सही उत्तर का चयन कीजिए।

- 1. केवल A, C, E
- 2. केवल A, C, B
- 3. केवल B, D, E
- 4. केवल C, D, E

Options :

- 485584156021. 1
- 485584156022. 2
- 485584156023. 3
- 485584156024. 4

Question Number : 1097 Question Id : 48558439007 Question Type : MCQ Option Shuffling : No Is Question Mandatory : No Calculator : None
Response Time : N.A Think Time : N.A Minimum Instruction Time : 0
Correct Marks : 5 Wrong Marks : 1
Question Key Details :

Key	Value
Comprehension	MCQ

Identify the steps followed by Therapist for Phobias using systematic desensitization.

- The therapist prepares a hierarchy of anxiety provoking situation
- The therapist relaxes the client to think about the least anxiety provoking.
- The client is interviewed to elicit fear provoking situation
- The client is asked to stop thinking of the fearful situation of they felt slightest tense.
- The client is also to imagine more severe for provoking situation while maintaining relaxation, the client get systematically desensitized to fear

Choose the correct answer from the options given below:

- A, B, C, D, E
- C, A, B, D, E
- C, D, E, A, B
- B, E, C, D, A

Options :

485584156025. 1
485584156026. 2
485584156027. 3
485584156028. 4

Question Number : 1097 Question Id : 48558439007 Question Type : MCQ Option Shuffling : No Is Question Mandatory : No Calculator : None
Response Time : N.A Think Time : N.A Minimum Instruction Time : 0
Correct Marks : 5 Wrong Marks : 1
Question Key Details :

Key	Value
Comprehension	MCQ

भय के उपचार के लिए चिकित्सकों द्वारा व्यवस्थित विसंवेदन शीलन को उपयोग द्वारा उठाए जाने वाले कदमों की पहचान करें।

- चिकित्सक दुश्चिंता को उकसाने वाली स्थितियों के एक सोपान का तैयार करता है।
- चिकित्सक व्यक्ति को सबसे कम दुश्चिंता उकसाने वाली स्थिति के विषय में सोचने के लिए विश्राम की स्थिति में ले जाता है।
- भय को उत्तेजित करने वाली स्थितियों का वर्णन करने के लिए व्यक्ति से प्रश्न पूछे जाते हैं। (साक्षात्कार करना)
- थोड़ा सा भी तनाव होने पर व्यक्ति को भयभीत करने वाली स्थितियों के विषय में सोचने से रोक दिया जाता है।
- आराम की स्थिति में व्यक्ति और अधिक भय उकसाने वाली स्थिति की कल्पना करने में समर्थ होता है। व्यक्ति भय से व्यवस्थित रूप विसंवेदी हो जाता है।

नीचे दिए गए विकल्पों में से सही उत्तर का चयन कीजिए:

- A, B, C, D, E
- C, A, B, D, E
- C, D, E, A, B
- B, E, C, D, A

Options :

485584156025. 1

485584156026. 2
485584156027. 3
485584156028. 4

Question Number : 1098 Question Id : 48558439008 Question Type : MCQ Option Shuffling : No Is Question Mandatory : No Calculator : None
Response Time : N.A Think Time : N.A Minimum Instruction Time : 0
Correct Marks : 5 Wrong Marks : 1

Question Key Details :

Key	Value
Comprehension	MCQ

When we meet people, we make impressions about their personal qualities. This is called _____.

1. Social Cognition
2. Social Facilitation
3. Social Inhibition
4. Impression Formation

Options :

485584156029. 1
485584156030. 2
485584156031. 3
485584156032. 4

Question Number : 1098 Question Id : 48558439008 Question Type : MCQ Option Shuffling : No Is Question Mandatory : No Calculator : None
Response Time : N.A Think Time : N.A Minimum Instruction Time : 0
Correct Marks : 5 Wrong Marks : 1

Question Key Details :

Key	Value
Comprehension	MCQ

जब हम लोगों से मिलते हैं तो हम उनके व्यक्तिगत गुणों के विषय में निष्कर्ष निकालते हैं। इसे _____ कहते हैं।

1. सामाजिक संज्ञान
2. सामाजिक सुविधा
3. सामाजिक निरोध
4. प्रभाव बनाना

Options :

485584156029. 1
485584156030. 2
485584156031. 3
485584156032. 4

Question Number : 1099 Question Id : 48558439009 Question Type : MCQ Option Shuffling : No Is Question Mandatory : No Calculator : None
Response Time : N.A Think Time : N.A Minimum Instruction Time : 0

Correct Marks : 5 Wrong Marks : 1

Question Key Details :

Key	Value
Comprehension	MCQ

Extremeness of an attitude indicator

1. whether an attitude is positive or negative
2. how positive or negative an attitude is
3. how many attitudes there are within a broader attitude
4. the role of an attitude in the attitude system

Options :

- 485584156033. 1
- 485584156034. 2
- 485584156035. 3
- 485584156036. 4

Question Number : 1099 Question Id : 48558439009 Question Type : MCQ Option Shuffling : No Is Question Mandatory : No Calculator : None Response Time : N.A Think Time : N.A Minimum Instruction Time : 0

Correct Marks : 5 Wrong Marks : 1

Question Key Details :

Key	Value
Comprehension	MCQ

किसी अभिवृत्ति की अधिकता क्या संकेत करती है?

1. अभिवृत्ति सकारात्मक है अथवा नकारात्मक।
2. अभिवृत्ति कितनी सकारात्मक अथवा नकारात्मक है।
3. एक व्यापक अभिवृत्ति में कितनी अभिवृत्तियाँ हैं।
4. अभिवृत्ति प्रणाली में किसी अभिवृत्ति की भूमिका क्या है।

Options :

- 485584156033. 1
- 485584156034. 2
- 485584156035. 3
- 485584156036. 4

Question Number : 1100 Question Id : 48558439010 Question Type : MCQ Option Shuffling : No Is Question Mandatory : No Calculator : None Response Time : N.A Think Time : N.A Minimum Instruction Time : 0

Correct Marks : 5 Wrong Marks : 1

Question Key Details :

Key	Value
Comprehension	MCQ

Prejudices can be minimized by

1. Highlighting individual identity
2. following self-fulfilling prophecy
3. translating negative feeling into discrimination
4. having strong social identity

Options :

- 485584156037. 1
- 485584156038. 2
- 485584156039. 3
- 485584156040. 4

Question Number : 1100 Question Id : 48558439010 Question Type : MCQ Option Shuffling : No Is Question Mandatory : No Calculator : None
Response Time : N.A Think Time : N.A Minimum Instruction Time : 0
Correct Marks : 5 Wrong Marks : 1
Question Key Details :

Key	Value
Comprehension	MCQ

पूर्वाग्रहों को _____ के द्वारा न्यूनतम बनाया जा सकता है।

1. व्यक्तिगत पहचान को विशेष बल देना
2. आत्म-पूर्ति की भविष्यवाणी का अनुगमन करना
3. नकारात्मक भावना को विभेदन में परिवर्तित करना
4. सशक्त सामाजिक पहचान होना

Options :

485584156037. 1
485584156038. 2
485584156039. 3
485584156040. 4

Question Number : 1101 Question Id : 48558439011 Question Type : MCQ Option Shuffling : No Is Question Mandatory : No Calculator : None
Response Time : N.A Think Time : N.A Minimum Instruction Time : 0
Correct Marks : 5 Wrong Marks : 1
Question Key Details :

Key	Value
Comprehension	MCQ

'Women are bad drivers'. This is an example of

1. Prejudice
2. Stereotype
3. Discrimination
4. Social cognition

Options :

485584156041. 1
485584156042. 2
485584156043. 3
485584156044. 4

Question Number : 1101 Question Id : 48558439011 Question Type : MCQ Option Shuffling : No Is Question Mandatory : No Calculator : None
Response Time : N.A Think Time : N.A Minimum Instruction Time : 0

Correct Marks : 5 Wrong Marks : 1

Question Key Details :

Key	Value
Comprehension	MCQ

'महिलएँ खराब वाहन चालक होती है।' यह निम्न में से किसका उदाहरण है?

1. पूर्वग्रह
2. रुढ़िबद्ध धारणा
3. विभेदन
4. सामाजिक संज्ञान

Options :

485584156041. 1

485584156042. 2

485584156043. 3

485584156044. 4

Question Number : 1102 Question Id : 48558439012 Question Type : MCQ Option Shuffling : No Is Question Mandatory : No Calculator : None Response Time : N.A Think Time : N.A Minimum Instruction Time : 0

Correct Marks : 5 Wrong Marks : 1

Question Key Details :

Key	Value
Comprehension	MCQ

To change the attitude towards, changing tobacco in an individual who is abusing the substance, by using cognitive dissonance the following steps should be followed

- A. Identifying the cognition to be changed
- B. Establishing the correct cognition that is understanding tobacco causes oral cancer.
- C. Resulting in cognitive consistency
- D. Adopting the correct attitude that is, I will not chew tobacco
- E. Understanding that both the cognitions are dissonant or 'out of tune'.

Choose the correct answer from the options given below:

1. A, B, C, D, E
2. A, B, D, E, C
3. A, B, E, D, C
4. A, B, C, E, D

Options :

485584156045. 1

485584156046. 2

485584156047. 3

485584156048. 4

Question Number : 1102 Question Id : 48558439012 Question Type : MCQ Option Shuffling : No Is Question Mandatory : No Calculator : None Response Time : N.A Think Time : N.A Minimum Instruction Time : 0

Correct Marks : 5 Wrong Marks : 1

Question Key Details :

Key	Value
Comprehension	MCQ

किसी तंबाकू खाने वाले में व्यक्ति में तंबाकू खाने की आदत बजलने के लिए, बोधात्मक असंगतता, के उपयोग द्वारा निम्न कदम उठाने चाहिए।

- परिवर्तित किए जाने वाले बोध की पहचान करना।
- तंबाकू द्वारा मुँह का कैंसर हो जाता है, इस समझ को बनाने कि लिए सही बोध को स्थापित करना।
- परिणामता बोधात्मक सामंजस्य होना।
- में तंबाकू नहीं चबाऊँगा, इस सही विचार को ग्रहण करना।
- पह समझना कि दोनों प्रकार के बोध असंगत अथवा 'बेसुरे' हैं।

नीचे दिए गए विकल्पों में से सबसे उपयुक्त उत्तर का चयन कीजिए:

- A, B, C, D, E
- A, B, D, E, C
- A, B, E, D, C
- A, B, C, E, D

Options :

485584156045. 1
485584156046. 2
485584156047. 3
485584156048. 4

Question Number : 1103 Question Id : 48558439013 Question Type : MCQ Option Shuffling : No Is Question Mandatory : No Calculator : None Response Time : N.A Think Time : N.A Minimum Instruction Time : 0 Correct Marks : 5 Wrong Marks : 1

Question Key Details :

Key	Value
Comprehension	MCQ

Match List I with List II

LIST I		LIST II	
A.	Balance theory of attitude change	I.	Stereotype
B.	improvement in performance in the presence of others	II.	Fritz Heider
C.	Cluster of negative ideas about a specific group (cognitive)	III.	Social facilitation
D.	Two concept theory of attitude	IV.	S. M. Mehsin

Choose the correct answer from the options given below:

- A-II, B-III, C-I, D-IV
- A-III, B-II, C-I, D-IV
- A-I, B-IV, C-III, D-II
- A-II, B-I, C-III, D-IV

Options :

485584156049. 1
485584156050. 2
485584156051. 3
485584156052. 4

Question Number : 1103 Question Id : 48558439013 Question Type : MCQ Option Shuffling : No Is Question Mandatory : No Calculator : None Response Time : N.A Think Time : N.A Minimum Instruction Time : 0 Correct Marks : 5 Wrong Marks : 1

Question Key Details :

Key	Value
Comprehension	MCQ

सूची I का सूची II से मिलान कीजिए

सूची I		सूची II	
A.	अभिवृत्ति परिवर्तन का संतुलन सिद्धान्त	I.	रुढ़िबद्धता
B.	अन्य लोगों की उपस्थिति में निष्पादन में सुधार	II.	प्रिन्ट्ज हीडर
C.	विशिष्ट समूह (ज्ञानात्मक) के विषय में नकारात्मक विचारों का समूह	III.	समाजिक सुविधाप्रदायक
D.	अभिवृत्ति का द्वि-अवधारणा सिद्धान्त	IV.	एस. एम. मोहसिन

निम्नलिखित विकल्पों में से सही उत्तर का चयन कीजिए :

1. A-II, B-III, C-I, D-IV
2. A-III, B-II, C-I, D-IV
3. A-I, B-IV, C-III, D-II
4. A-II, B-I, C-III, D-IV

Options :

485584156049. 1
485584156050. 2
485584156051. 3
485584156052. 4

Question Number : 1104 Question Id : 48558439014 Question Type : MCQ Option Shuffling : No Is Question Mandatory : No Calculator : None
Response Time : N.A Think Time : N.A Minimum Instruction Time : 0
Correct Marks : 5 Wrong Marks : 1

Question Key Details :

Key	Value
Comprehension	MCQ

A collection of people who have assembled for a special purpose is called

1. Ingroup
2. Outgroup
3. Audience
4. Team

Options :

485584156053. 1
485584156054. 2
485584156055. 3
485584156056. 4

Question Number : 1104 Question Id : 48558439014 Question Type : MCQ Option Shuffling : No Is Question Mandatory : No Calculator : None
Response Time : N.A Think Time : N.A Minimum Instruction Time : 0
Correct Marks : 5 Wrong Marks : 1

Question Key Details :

Key	Value
Comprehension	MCQ

लोगों का वह समूह जे किसी विशेष उद्येश्य के कारण एकत्रित हुआ हे _____ कहलाता हे।

1. अंत-समूह
2. बाह्यसमूह
3. दर्शक
4. टीम

Options :

485584156053. 1
485584156054. 2
485584156055. 3
485584156056. 4

Question Number : 1105 Question Id : 48558439015 Question Type : MCQ Option Shuffling : No Is Question Mandatory : No Calculator : None Response Time : N.A Think Time : N.A Minimum Instruction Time : 0

Correct Marks : 5 Wrong Marks : 1

Question Key Details :

Key	Value
Comprehension	MCQ

Identify the stages of group formation

- A. Joining
- B. Forming
- C. Conquering
- D. Storming
- E. Norming

Choose the correct answer from the options given below:

1. A, B, C
2. B, D, E
3. C, D, A
4. A, D, E

Options :

485584156057. 1
485584156058. 2
485584156059. 3
485584156060. 4

Question Number : 1105 Question Id : 48558439015 Question Type : MCQ Option Shuffling : No Is Question Mandatory : No Calculator : None Response Time : N.A Think Time : N.A Minimum Instruction Time : 0

Correct Marks : 5 Wrong Marks : 1

Question Key Details :

Key	Value
Comprehension	MCQ

समूह गठन की अवस्थाओं को पहचानें।

- A. जुठना
- B. बनाना (गठन करना)
- C. विजयी होना
- D. उपद्रव करना
- E. मानदंड बनाना

नीचे दिए गए विकल्पों में से सही उत्तर का चयन कीजिए-

- 1. A, B, C
- 2. B, D, E
- 3. C, D, A
- 4. A, D, E

Options :

- 485584156057. 1
- 485584156058. 2
- 485584156059. 3
- 485584156060. 4

Question Number : 1106 Question Id : 48558439016 Question Type : MCQ Option Shuffling : No Is Question Mandatory : No Calculator : None Response Time : N.A Think Time : N.A Minimum Instruction Time : 0

Correct Marks : 5 Wrong Marks : 1

Question Key Details :

Key	Value
Comprehension	MCQ

Suggest a few ways to reduce social loafing:

- A. providing group projects
- B. increasing the pressure to work hard
- C. working collective effort recognisable
- D. increasing apparent importance or value of a task
- E. strengthening group cohesiveness

Choose the correct answer from the options given below:

- 1. B, D, E only
- 2. A, B, C only
- 3. B, C, E only
- 4. D, E, C only

Options :

- 485584156061. 1
- 485584156062. 2
- 485584156063. 3
- 485584156064. 4

Question Number : 1106 Question Id : 48558439016 Question Type : MCQ Option Shuffling : No Is Question Mandatory : No Calculator : None Response Time : N.A Think Time : N.A Minimum Instruction Time : 0

Correct Marks : 5 Wrong Marks : 1

Question Key Details :

Key	Value
Comprehension	MCQ

सामाजिक आचरणों को कम करने के लिए कुछ तरीके सुझाए।

- A. कड़ी मेहनत करने के अधिक दबाव बनाए
- B. सामूहिक प्रयासों को मान्यता दी जाए
- C. सामूहिक प्रयासों को मान्यता दी जाए
- D. किसी कार्य के प्रयत्नक्षम महत्व या मूल्य में वृद्धि करना
- E. समूह संसंजकता को सशक्त बनाना

नीचे दिए गए विकल्पों में से सबसे उपयुक्त उत्तर का चयन कीजिए:

- 1. केवल B, D, E
- 2. केवल A, B, C
- 3. केवल B, C, E
- 4. केवल D, E, C

Options :

485584156061. 1

485584156062. 2

485584156063. 3

485584156064. 4

Question Number : 1107 Question Id : 48558439017 Question Type : MCQ Option Shuffling : No Is Question Mandatory : No Calculator : None Response Time : N.A Think Time : N.A Minimum Instruction Time : 0 Correct Marks : 5 Wrong Marks : 1

Question Key Details :

Key	Value
Comprehension	MCQ

Match List I with List II

LIST I		LIST II	
A.	The automatic effect	I.	Cooperation and competition conformity
B.	Milgram's experiment	II.	Conformity
C.	Sherif's experiment	III.	Obedience
D.	Latane	IV.	Social loafing

Choose the correct answer from the options given below:

- 1. A-III, B-I, C-II, D-IV
- 2. A-II, B-III, C-I, D-IV
- 3. A-II, B-III, C-IV, D-I
- 4. A-III, B-II, C-I, D-IV

Options :

485584156065. 1

485584156066. 2

485584156067. 3

485584156068. 4

Question Number : 1107 Question Id : 48558439017 Question Type : MCQ Option Shuffling : No Is Question Mandatory : No Calculator : None Response Time : N.A Think Time : N.A Minimum Instruction Time : 0

Correct Marks : 5 Wrong Marks : 1

Question Key Details :

Key	Value
-----	-------

सूची I का सूची II से मिलान कीजिए

सूची I		सूची II	
A.	स्व-गतिक प्रभाव	I.	सहयोग तथा प्रतिस्पर्धा
B.	मिलग्राम का प्रयोग	II.	अनुरूपता/अनुपालन
C.	शेरिफ का प्रयोग	III.	अज्ञापातन
D.	लाताने	IV.	सामाजिक आवारगर्दी

निम्नलिखित विकल्पों में से सही उत्तर का चयन कीजिए :

1. A-III, B-I, C-II, D-IV
2. A-II, B-III, C-I, D-IV
3. A-II, B-III, C-IV, D-I
4. A-III, B-II, C-I, D-IV

Options :

485584156065. 1
485584156066. 2
485584156067. 3
485584156068. 4

Question Number : 1108 Question Id : 48558439018 Question Type : MCQ Option Shuffling : No Is Question Mandatory : No Calculator : None Response Time : N.A Think Time : N.A Minimum Instruction Time : 0

Correct Marks : 5 Wrong Marks : 1

Question Key Details :

Key	Value
Comprehension	MCQ

The act of aggression meant to obtain a certain goal or objects called:

1. Instrumental Aggression
2. Hostile Aggression
3. Pro active Aggression
4. Verbal Aggression

Options :

485584156069. 1
485584156070. 2
485584156071. 3
485584156072. 4

Question Number : 1108 Question Id : 48558439018 Question Type : MCQ Option Shuffling : No Is Question Mandatory : No Calculator : None Response Time : N.A Think Time : N.A Minimum Instruction Time : 0

Correct Marks : 5 Wrong Marks : 1

Question Key Details :

Key	Value
Comprehension	MCQ

वह आक्रामक क्रिया जो विशेष लक्ष्य या उद्देश्य की प्राप्ति के लिए जाती है _____ कहलाती है

1. सहायक आक्रामकता
2. विरोधी प्रतिकूल आक्रामकता
3. अप्रसक्रिया आक्रामकता
4. शाब्दिक आक्रामकता

Options :

485584156069. 1
485584156070. 2
485584156071. 3
485584156072. 4

Question Number : 1109 Question Id : 48558439019 Question Type : MCQ Option Shuffling : No Is Question Mandatory : No Calculator : None Response Time : N.A Think Time : N.A Minimum Instruction Time : 0

Correct Marks : 5 Wrong Marks : 1

Question Key Details :

Key	Value
Comprehension	MCQ

Poverty begets poverty, the poverty cycle explains why poverty tends to continue among the same section of society. Some of the factors that do not lead to poverty are:

1. Low income and lack of resources
2. low health and nutrition
3. Lack of education and skills
4. More job opportunities

Options :

485584156073. 1
485584156074. 2
485584156075. 3
485584156076. 4

Question Number : 1109 Question Id : 48558439019 Question Type : MCQ Option Shuffling : No Is Question Mandatory : No Calculator : None Response Time : N.A Think Time : N.A Minimum Instruction Time : 0

Correct Marks : 5 Wrong Marks : 1

Question Key Details :

Key	Value
Comprehension	MCQ

निर्धनता, निर्धनता को उत्पन्न करती है। विधनता चक्र यह विवरण देता है कि समाज के एक वर्ग में निर्धनता क्यों लगातार बनी रहती है। निर्धनता की तरफ अग्रसर नहीं करने, वाले कारक कौन से हैं?

1. निम्न आय तथा संसाधनों की कमी
2. स्वास्थ्य तथा पोषण में न्यूनता
3. शिक्षा तथा कौशलों में कमी
4. कार्य करने का अधिक अवसर

Options :

485584156073. 1
485584156074. 2

485584156075. 3
485584156076. 4

Question Number : 1110 Question Id : 48558439020 Question Type : MCQ Option Shuffling : No Is Question Mandatory : No Calculator : None
Response Time : N.A Think Time : N.A Minimum Instruction Time : 0

Correct Marks : 5 Wrong Marks : 1

Question Key Details :

Key	Value
Comprehension	MCQ

As the teacher was explaining her lesson, she could see Rana lost in his thoughts. When asked to explain, Rana was not able to tell the answer, even though he was present and usually gave answers. This is because Rana was only _____

1. Hearing
2. Listening
3. Paraphrasing
4. Reception

Options :

485584156077. 1
485584156078. 2
485584156079. 3
485584156080. 4

Question Number : 1110 Question Id : 48558439020 Question Type : MCQ Option Shuffling : No Is Question Mandatory : No Calculator : None
Response Time : N.A Think Time : N.A Minimum Instruction Time : 0

Correct Marks : 5 Wrong Marks : 1

Question Key Details :

Key	Value
Comprehension	MCQ

अपने पाठ को समझते हुए शिक्षिका ने पाया कि राना अपने विचारों में खोया हुआ था। पूछने पर, कक्षा में उपस्थित होते हुए भी वह उत्तर न दे सका जबकि सामान्यता वह उत्तर देता था। ऐसा राना के केवल _____ के कारण हुआ।

1. सुनने
2. ध्यान लगाकर सुनने
3. भावनुवाद करने
4. ग्रहण करने

Options :

485584156077. 1
485584156078. 2
485584156079. 3
485584156080. 4

Sub-Section Number :

2

Sub-Section Id :

4855842962

Question Shuffling Allowed :

No

Is Section Default? :

null

Question Number : 1111 Question Id : 48558439021 Question Type : MCQ Option Shuffling : No Is Question Mandatory : No Calculator : None
Response Time : N.A Think Time : N.A Minimum Instruction Time : 0

Correct Marks : 5 Wrong Marks : 1

Question Key Details :

Key	Value
Comprehension	Comp1

Read the case below and answer the questions that follow:

A 22-year-old girl had been experiencing feelings of emptiness, lack of interest in all activities and sleep disturbances. She appears to be demanding, reckless, aggressive, and unable to delay gratification of needs. She has difficulty in managing anger and has emotional fluctuations. Her interpersonal relationships are also strained.

She believes she was doing reasonably well 3 years back and the problem worsened after her boards. She started to indulge in self-harm acts; the situation worsened whenever she had conflicts with her family. Eventually, she was advised to seek professional help for an adequate diagnosis of her mental health.

Identify the self-report measure that is best suited in this case:

1. EPQ (Eysenck Personality Questionnaire)
2. MMPI (Minnesota Multiphase Personality Inventory)
3. 16PF (Sixteen Personality Factor Questionnaire)
4. MPI (Mandsley's Personality Inventory)

Options :

485584156081. 1
485584156082. 2
485584156083. 3
485584156084. 4

Question Number : 1111 Question Id : 48558439021 Question Type : MCQ Option Shuffling : No Is Question Mandatory : No Calculator : None Response Time : N.A Think Time : N.A Minimum Instruction Time : 0

Correct Marks : 5 Wrong Marks : 1

Question Key Details :

Key	Value
Comprehension	Comp1

नीचे दिए गए मामले को पढ़ो तथा पूछे गए प्रश्नों के उत्तर दो।

एक 22 वर्ष की लड़की खालीपन, सभी गतिविधियों में अभिरुति की कमी तथा व्यवधान की भावनाओं का अनुभव कर रही थी। वह, अतृप्त, लापरवाह, आक्रामक तथा आवश्यकताओं के परितोषण में देर करने में असमर्थ लगती है। उसे क्रोध प्रबंधन में कठिनाई होती है तथा उसकी भावाओं में लगातार परिवर्तन होता रहता है। उसके अंतरव्यक्तिक संबंध भी ठीक नहीं हैं। उसे लगता है कि 3 वर्ष पूर्व तक वह सब कुछ बहुत अच्छे से कर रही थी तथा फसकी बोर्ड परीक्षा के बाद उसकी स्थिति खराब हो गई। वह आत्म-हानि की गतिविधियों में सम्मिलित हो गई तथा जब भी उसके परिवार से उसका झगडा होता तो स्थिति और भी खराब हो जाती। परिणामतः उसे मानसिक स्वास्थ्य के पर्याप्त निदान के लिए किसी व्यावसायिक विशेषज्ञ से सलाह लेने के लिए कहा गया।

इस मामले के लिए सर्वोत्तम आत्म-विवरण मापक की पहचान करें।

1. EPQ (आइसैक की व्यक्तित्व प्रश्नावली)
2. MMPI (मिनेसोटा बहु-अवस्थीय व्यक्तित्व सूची)
3. 16PF (व्यक्तित्व कारकों वाली प्रश्नावली)
4. MPI (मैंडस्ले की व्यक्तित्व सूची)

Options :

485584156081. 1
485584156082. 2
485584156083. 3
485584156084. 4

Question Number : 1112 Question Id : 48558439022 Question Type : MCQ Option Shuffling : No Is Question Mandatory : No Calculator : None
Response Time : N.A Think Time : N.A Minimum Instruction Time : 0
Correct Marks : 5 Wrong Marks : 1

Question Key Details :

Key	Value
Comprehension	Comp1

Read the case below and answer the questions that follow:

A 22-year-old girl had been experiencing feelings of emptiness, lack of interest in all activities and sleep disturbances. She appears to be demanding, reckless, aggressive, and unable to delay gratification of needs. She has difficulty in managing anger and has emotional fluctuations. Her interpersonal relationships are also strained.

She believes she was doing reasonably well 3 years back and the problem worsened after her boards. She started to indulge in self-harm acts; the situation worsened whenever she had conflicts with her family. Eventually, she was advised to seek professional help for an adequate diagnosis of her mental health.

'She appears to be demanding, reckless, aggressive and unable to delay gratification of needs.' According to Freud's theory, identify the structure of personality being talked about:

1. Id
2. Ego
3. Superego
4. Repression

Options :

- 485584156085. 1
- 485584156086. 2
- 485584156087. 3
- 485584156088. 4

Question Number : 1112 Question Id : 48558439022 Question Type : MCQ Option Shuffling : No Is Question Mandatory : No Calculator : None
Response Time : N.A Think Time : N.A Minimum Instruction Time : 0
Correct Marks : 5 Wrong Marks : 1

Question Key Details :

Key	Value
Comprehension	Comp1

नीचे दिए गए मामले को पढ़ो तथा पूछे गए प्रश्नों के उत्तर दो।

एक 22 वर्ष की लड़की खालीपन, सभी गतिविधियों में अभिरुति की कमी तथा व्यवधान की भावनाओं का अनुभव कर रही थी। वह, अतृप्त, लापरवाह, आक्रामक तथा आवश्यकताओं के परितोषण में देर करने में असमर्थ लगती है। उसे क्रोध प्रबंधन में कठिनाई होती है तथा उसकी भावाओं में लगातार परिवर्तन होता रहता है। उसके अंतरव्यक्तिक संबंध भी ठीक नहीं हैं। उसे लगता है कि 3 वर्ष पूर्व तक वह सब कुछ बहुत अच्छे से कर रही थी तथा फसकी बोर्ड परीक्षा के बाद उसकी स्थिति खराब हो गई। वह आत्म-हानि की गतिविधियों में सम्मिलित हो गई तथा जब भी उसके परिवार से उसका झगडा होता तो स्थिति और भी खराब हो जाती। परिणामतः उसे मानसिक स्वास्थ्य के पर्याप्त निदान के लिए किसी व्यावसायिक विशेषज्ञ से सलाह लेने के लिए कहा गया।

वह अतृप्त, लापरवाह, आक्रामक तथा आवश्यकताओं के परितोषण में विलम्ब करने में असमर्थ लगती है। क्रॉयड के सिद्धान्त के अनुसार उसके इस व्यक्तित्व की संरचना को पहचानें।

1. इड
2. ईगो
3. सुपरईगो
4. दमन

Options :

485584156085. 1
485584156086. 2
485584156087. 3
485584156088. 4

Question Number : 1113 Question Id : 48558439023 Question Type : MCQ Option Shuffling : No Is Question Mandatory : No Calculator : None Response Time : N.A Think Time : N.A Minimum Instruction Time : 0 Correct Marks : 5 Wrong Marks : 1

Question Key Details :

Key	Value
Comprehension	Comp1

Read the case below and answer the questions that follow:

A 22-year-old girl had been experiencing feelings of emptiness, lack of interest in all activities and sleep disturbances. She appears to be demanding, reckless, aggressive, and unable to delay gratification of needs. She has difficulty in managing anger and has emotional fluctuations. Her interpersonal relationships are also strained.

She believes she was doing reasonably well 3 years back and the problem worsened after her boards. She started to indulge in self-harm acts; the situation worsened whenever she had conflicts with her family. Eventually, she was advised to seek professional help for an adequate diagnosis of her mental health.

According to Eysenck's Theory, identify the personality trait she would be high on:

1. Neuroticism
2. Introversion
3. Extraversion
4. Emotionally stable

Options :

485584156089. 1
485584156090. 2
485584156091. 3
485584156092. 4

Question Number : 1113 Question Id : 48558439023 Question Type : MCQ Option Shuffling : No Is Question Mandatory : No Calculator : None Response Time : N.A Think Time : N.A Minimum Instruction Time : 0 Correct Marks : 5 Wrong Marks : 1

Question Key Details :

Key	Value
Comprehension	Comp1

नीचे दिए गए मामले को पढ़ो तथा पूछे गए प्रश्नों के उत्तर दो।

एक 22 वर्ष की लड़की खालीपन, सभी गतिविधियों में अभिरुति की कमी तथा व्यवधान की भावनाओं का अनुभव कर रही थी। वह, अतृप्त, लापरवाह, आक्रामक तथा आवश्यकताओं के परितोषण में देर करने में असमर्थ लगती है। उसे क्रोध प्रबंधन में कठिनाई होती है तथा उसकी भावाओं में लगातार परिवर्तन होता रहता है। उसके अंतरव्यक्तिक संबंध भी ठीक नहीं हैं। उसे लगता है कि 3 वर्ष पूर्व तक वह सब कुछ बहुत अच्छे से कर रही थी तता फसकी बोर्ड परीक्षा के बाद उसकी स्थिति खराब हो गई। वह आत्म-हानि की गतिविधियों में सम्मिलित हो गई तथा जब भी उसके परिवार से उसका झगडा होता तो स्थिति और भी खराब हो जाती। परिणामतः उसे मानसिक स्वास्थ्य के पर्याप्त निददान के लिए किसी व्यावसायिक विशेषज्ञ से सलाह लेने के लिए कहा गया।

आइज़ैक से सिद्धान्त के अनुसार उसमें किस प्रकार के व्यक्तित्व के लक्षणों अधिक हैं?

1. विक्षिप्तता
2. अंतर्मुखी
3. बाह्यमुखी
4. भावनात्मक रूप से स्थिर

Options :

485584156089. 1
485584156090. 2
485584156091. 3
485584156092. 4

Question Number : 1114 Question Id : 48558439024 Question Type : MCQ Option Shuffling : No Is Question Mandatory : No Calculator : None Response Time : N.A Think Time : N.A Minimum Instruction Time : 0

Correct Marks : 5 Wrong Marks : 1

Question Key Details :

Key	Value
Comprehension	Comp1

Read the case below and answer the questions that follow:

A 22-year-old girl had been experiencing feelings of emptiness, lack of interest in all activities and sleep disturbances. She appears to be demanding, reckless, aggressive, and unable to delay gratification of needs. She has difficulty in managing anger and has emotional fluctuations. Her interpersonal relationships are also strained. She believes she was doing reasonably well 3 years back and the problem worsened after her boards. She started to indulge in self-harm acts; the situation worsened whenever she had conflicts with her family. Eventually, she was advised to seek professional help for an adequate diagnosis of her mental health.

Identify the projective technique that will allow her to express her negative thoughts in the form of characters of a story for a more intensive understanding:

1. Parschach's Intolerant Test
2. TAT - (Thematic Apperception Test)
3. Rosenzweig Picture - Frustration Study
4. Sentence Completion Test

Options :

485584156093. 1
485584156094. 2
485584156095. 3
485584156096. 4

Question Number : 1114 Question Id : 48558439024 Question Type : MCQ Option Shuffling : No Is Question Mandatory : No Calculator : None
Response Time : N.A Think Time : N.A Minimum Instruction Time : 0
Correct Marks : 5 Wrong Marks : 1

Question Key Details :

Key	Value
Comprehension	Comp1

नीचे दिए गए मामले को पढ़ो तथा पूछे गए प्रश्नों के उत्तर दो।

एक 22 वर्ष की लड़की खालीपन, सभी गतिविधियों में अभिरुति की कमी तथा व्यवधान की भावनाओं का अनुभव कर रही थी। वह, अतृप्त, लापरवाह, आक्रामक तथा आवश्यकताओं के परितोषण में देर करने में असमर्थ लगती है। उसे क्रोध प्रबंधन में कठिनाई होती है तथा उसकी भावाओं में लगातार परिवर्तन होता रहता है। उसके अंतरव्यक्तिक संबंध भी ठीक नहीं हैं। उसे लगता है कि 3 वर्ष पूर्व तक वह सब कुछ बहुत अच्छे से कर रही थी तथा फसकी बोर्ड परीक्षा के बाद उसकी स्थिति खराब हो गई। वह आत्म-हानि की गतिविधियों में सम्मिलित हो गई तथा जब भी उसके परिवार से उसका झगडा होता तो स्थिति और भी खराब हो जाती। परिणामतः उसे मानसिक स्वास्थ्य के पर्याप्त निदान के लिए किसी व्यावसायिक विशेषज्ञ से सलाह लेने के लिए कहा गया।

उस प्रक्षेपक तकनीक को पहचानें जो अधिक विस्तृत समझ बनाने के लिए किसी कहानी के चरित्रों के रूप में उसके नकारात्मक विचारों की एभिव्यक्ति करने में सहायक होगी।

1. रोर्शा का इंकब्लोट परीक्षण
2. TAT (थीमैटिक एयरसेप्शन टेस्ट)
3. रोजेनविग का पिक्चर-फ्रस्ट्रेशन अध्ययन)
4. वाक्य को पूरा करने का परिक्षण

Options :

485584156093. 1
485584156094. 2
485584156095. 3
485584156096. 4

Question Number : 1115 Question Id : 48558439025 Question Type : MCQ Option Shuffling : No Is Question Mandatory : No Calculator : None
Response Time : N.A Think Time : N.A Minimum Instruction Time : 0
Correct Marks : 5 Wrong Marks : 1

Question Key Details :

Key	Value
Comprehension	Comp1

Read the case below and answer the questions that follow:

A 22-year-old girl had been experiencing feelings of emptiness, lack of interest in all activities and sleep disturbances. She appears to be demanding, reckless, aggressive, and unable to delay gratification of needs. She has difficulty in managing anger and has emotional fluctuations. Her interpersonal relationships are also strained.

She believes she was doing reasonably well 3 years back and the problem worsened after her boards. She started to indulge in self-harm acts; the situation worsened whenever she had conflicts with her family. Eventually, she was advised to seek professional help for an adequate diagnosis of her mental health.

Identify the techniques that do not qualify as behavioural analysis of personality:

- A. Behavioural ratings
- B. Draw - a - person test
- C. Interview
- D. MMPI (Minnesota Multiphasic Personality Inventory)
- E. Nomination

Choose the correct answer from the options given below:

- 1. A, C only
- 2. D, E only
- 3. B, D only
- 4. B, C only

Options :

- 485584156097. 1
- 485584156098. 2
- 485584156099. 3
- 485584156100. 4

Question Number : 1115 Question Id : 48558439025 Question Type : MCQ Option Shuffling : No Is Question Mandatory : No Calculator : None

Response Time : N.A Think Time : N.A Minimum Instruction Time : 0

Correct Marks : 5 Wrong Marks : 1

Question Key Details :

Key	Value
Comprehension	Compl

नीचे दिए गए मामले को पढ़ो तथा पूछे गए प्रश्नों के उत्तर दो।

एक 22 वर्ष की लड़की खालीपन, सभी गतिविधियों में अभिरुति की कमी तथा व्यवधान की भावनाओं का अनुभव कर रही थी। वह, अतृप्त, लापरवाह, आक्रामक तथा आवश्यकताओं के परितोषण में देर करने में असमर्थ लगती है। उसे क्रोध प्रबंधन में कठिनाई होती है तथा उसकी भावाओं में लगातार परिवर्तन होता रहता है। उसके अंतरव्यक्तिक संबंध भी ठीक नहीं हैं। उसे लगता है कि 3 वर्ष पूर्व तक वह सब कुछ बहुत अच्छे से कर रही थी तता फसकी बोर्ड परीक्षा के बाद उसकी स्थिति खराब हो गई। वह आत्म-हानि की गतिविधियों में सम्मिलित हो गई तथा जब भी उसके परिवार से उसका झगडा होता तो स्थिति और भी खराब हो जाती। परिणामतः उसे मानसिक स्वास्थ्य के पर्याप्त निदान के लिए किसी व्यावसायिक विशेषज्ञ से सलाह लेने के लिए कहा गया।

उन तकनीकों को पहचानें जो व्यक्तित्व के व्यावहारिक विश्लेषण के लिए उचित हैं।

- A. व्यावहारिक अभिपुष्टि
- B. ड्रॉ-अ-परर्सन परिक्षण (व्यक्ति का चित्र बनाना)
- C. साक्षात्कार
- D. MMPI (मिनेसोटा मल्टीफेसिक पर्सनेलिटी सूची)
- E. मनोनीत करना

नीचे दिए गए विकल्पों में से सही उत्तर का चयन कीजिए:

- 1. केवल A, C
- 2. केवल D, E
- 3. केवल B, D
- 4. केवल B, C

Options :

485584156097. 1

485584156098. 2

485584156099. 3

485584156100. 4

Sub-Section Number : 3
Sub-Section Id : 4855842963
Question Shuffling Allowed : No
Is Section Default? : null

Question Number : 1116 Question Id : 48558439026 Question Type : MCQ Option Shuffling : No Is Question Mandatory : No Calculator : None
Response Time : N.A Think Time : N.A Minimum Instruction Time : 0
Correct Marks : 5 Wrong Marks : 1
Question Key Details :

Key	Value
Comprehension	Comp2

Read the case study and answer the five questions that follow:

Nikita and Ritika are twins. Nikita is intelligent, Friendly and popular among her friends. Ritika is shy, withdrawn and feels inferior to her sister. As a child, she felt her parents neglected her and was deeply hurt when they made comparisons. As she grew, these feelings of rejection were reinforced when teachers made statements like, "Look how well Nikita is doing! Why can't you be like her?" Ritika's feelings of rejection only strengthened with time. With the passage of time, Ritika was convinced that she is not good enough and would always be a failure in life.

Identify the Therapy best suited for Ritika

1. Systematic Desensitisation
2. Token Economy
3. Beck's Cognitive Therapy
4. Psychodynamic therapy

Options :

485584156101. 1

485584156102. 2

485584156103. 3

485584156104. 4

Question Number : 1116 Question Id : 48558439026 Question Type : MCQ Option Shuffling : No Is Question Mandatory : No Calculator : None
Response Time : N.A Think Time : N.A Minimum Instruction Time : 0
Correct Marks : 5 Wrong Marks : 1
Question Key Details :

Key	Value
Comprehension	Comp2

निम्नलिखित मामले को पढ़ें तथा पूछे पाँच प्रश्नों के उत्तर दें।

नितिका तथा रितिका दोनों जुड़वाँ बहनें हैं। नितिका बुद्धिमान है, सबसे घुल मिल जाती है तथा मित्रों में प्रसिद्ध है। रितिका शर्माली है, गैर-सामाजिक है तथा अपनी बहिन से हीन महसूस करती है। जब वह छोटी थी तो उसे लगता था कि उसके माता-पिता उसे नजर-अंदाज करते हैं और जब वे दोनों की तुलना करते थे तो उसे बहुत अधिक चोट पहुँचती थी। जब वह बड़ी हुई तो उन अस्वीकृत होने की भावनाओं को और बल मिला जब उसके शिक्षकों ने कहीं "देखो, नितिका अच्छा कर रही है।" तुम उसके जैसे क्यों नहीं बनती?

रितिका की अस्वीकृत होने की भावना समय के साथ और भी सशक्त गई। समय के साथ रितिका ने यह मान लिया कि वह रूप से समर्थ नहीं है तथा वह जीवन में सदा असफल रहेगी।

रितिका के लिए सर्वोत्तम चिकित्सा उपचार की पहचान करें।

1. व्यवस्थित विसुग्राहीकरण (विसंवेदनशीलता)
2. टोकन अर्धव्यवस्था
3. बैंक का बोधात्मक चिकित्सा उपचार
4. मनोगतिक चिकित्सा उपचार

Options :

485584156101. 1
485584156102. 2
485584156103. 3
485584156104. 4

Question Number : 1117 Question Id : 48558439027 Question Type : MCQ Option Shuffling : No Is Question Mandatory : No Calculator : None Response Time : N.A Think Time : N.A Minimum Instruction Time : 0 Correct Marks : 5 Wrong Marks : 1

Question Key Details :

Key	Value
Comprehension	Comp2

Read the case study and answer the five questions that follow:

Nikita and Ritika are twins. Nikita is intelligent, friendly and popular among her friends. Ritika is shy, withdrawn and feels inferior to her sister. As a child, she felt her parents neglected her and was deeply hurt when they made comparisons. As she grew, these feelings of rejection were reinforced when teachers made statements like, "Look how well Nikita is doing! Why can't you be like her?" Ritika's feelings of rejection only strengthened with time. With the passage of time, Ritika was convinced that she is not good enough and would always be a failure in life.

_____ is the cause of Ritika's problem.

1. Faulty learning
2. Dysfunctional cognitive structures
3. Lack of self-actualisation
4. Unresolved unconscious desires

Options :

485584156105. 1
485584156106. 2
485584156107. 3
485584156108. 4

Question Number : 1117 Question Id : 48558439027 Question Type : MCQ Option Shuffling : No Is Question Mandatory : No Calculator : None Response Time : N.A Think Time : N.A Minimum Instruction Time : 0 Correct Marks : 5 Wrong Marks : 1

Question Key Details :

Key	Value
Comprehension	Comp2

निम्नलिखित मामले को पढ़ें तथा पूछे पाँच प्रश्नों के उत्तर दें।

नीतिका तथा रीतिका दोनों जुड़वाँ बहनें हैं। नीतिका बुद्धिमान है, सबसे धुल मिल जाती है तथा मित्रों में प्रसिद्ध है। रीतिका शर्माँली है, गैर-सामाजिक है तथा अपनी बहिन से हीन महसूस करती है। जब वह छोटी थी तो उसे लगता था कि उसके माता-पिता उसे नजर-अंदाज करते हैं और जब वे दोनों की तुलना करते थे तो उसे बहुत अधिक चोट पहुँचती थी। जब वह बड़ी हुई तो उन अस्वीकृत होने की भावनाओं को और बल मिला जब उसके शिक्षकों ने कहीं "देखो, नीतिका अच्छा कर रही है।" तुम उसके जैसे क्यों नहीं बनती?

रीतिका की अस्वीकृत होने की भावना समय के साथ और भी सशक्त गई। समय के साथ रीतिका ने यह मान लिया कि वह रूप से समर्थ नहीं है तथा वह जीवन में सदा असफल रहेगी।

रीतिका की समस्या यका क्या कारण है?

1. त्रुटिपूर्ण अधिगम
2. हानिकर बोधात्मक संरचनाएँ
3. आत्म-दिलचस्पी की कमी
4. अनुत्तरित अनेच्छिक इच्छाएँ

Options :

485584156105. 1
485584156106. 2
485584156107. 3
485584156108. 4

Question Number : 1118 Question Id : 48558439028 Question Type : MCQ Option Shuffling : No Is Question Mandatory : No Calculator : None Response Time : N.A Think Time : N.A Minimum Instruction Time : 0

Correct Marks : 5 Wrong Marks : 1

Question Key Details :

Key	Value
Comprehension	Comp2

Read the case study and answer the five questions that follow:

Nikita and Ritika are twins. Nikita is intelligent, friendly and popular among her friends. Ritika is shy, withdrawn and feels inferior to her sister. As a child, she felt her parents neglected her and was deeply hurt when they made comparisons. As she grew, these feelings of rejection were reinforced when teachers made statements like, "Look how well Nikita is doing! Why can't you be like her?" Ritika's feelings of rejection only strengthened with time. With the passage of time, Ritika was convinced that she is not good enough and would always be a failure in life.

Which of the following is NOT correct about the given psychotherapies.

1. In psychodynamic therapy the therapist is an interpreter
2. In existential therapy the therapist is a facilitator
3. In behaviour therapy the focus is on the past, the present is irrelevant
4. Psychodynamic therapy is the oldest therapy

Options :

485584156109. 1
485584156110. 2
485584156111. 3
485584156112. 4

Question Number : 1118 Question Id : 48558439028 Question Type : MCQ Option Shuffling : No Is Question Mandatory : No Calculator : None
Response Time : N.A Think Time : N.A Minimum Instruction Time : 0

Correct Marks : 5 Wrong Marks : 1

Question Key Details :

Key	Value
Comprehension	Comp2

निम्नलिखित मामले को पढ़ें तथा पूछे पाँच प्रश्नों के उत्तर दें।

नीतिका तथा रीतिका दोनों जुड़वाँ बहनें हैं। नीतिका बुद्धिमान है, सबसे धुल मिल जाती है तथा मित्रों में प्रसिद्ध है। रीतिका शर्मीली है, गैर-सामाजिक है तथा अपनी बहिन से हीन महसूस करती है। जब वह छोटी थी तो उसे लगता था कि उसके माता-पिता उसे नजरअंदाज करते हैं और जब वे दोनों की तुलना करते थे तो उसे बहुत अधिक चोट पहुँचती थी। जब वह बड़ी हुई तो उन अस्वीकृत होने की भावनाओं को और बल मिला जब उसके शिक्षकों ने कहीं "देखो, नीतिका अच्छा कर रही है।" तुम उसके जैसे क्यों नहीं बनती?

रीतिका की अस्वीकृत होने की भावना समय के साथ और भी सशक्त गई। समय के साथ रीतिका ने यह मान लिया कि वह रूप से समर्थ नहीं है तथा वह जीवन में सदा असफल रहेगी।

निम्नलिखित में से दिए गए मनोचिकित्सक उपचारों के लिए क्या सही नहीं है?

1. मनोगतिक चिकित्सा उपचार में चिकित्सक एक व्याख्याता है।
2. अस्तित्वपरक चिकित्सा उपचार में चिकित्सक एक सुविधा-आप्रदायक है।
3. व्यवहार चिकित्सा में व्यक्ति भूतकाल पर संकेंद्रण होता है तथा वर्तमान महत्वपूर्ण नहीं होता।
4. मनोगतिक चिकित्सा सबसे पुरानी है।

Options :

485584156109. 1

485584156110. 2

485584156111. 3

485584156112. 4

Question Number : 1119 Question Id : 48558439029 Question Type : MCQ Option Shuffling : No Is Question Mandatory : No Calculator : None
Response Time : N.A Think Time : N.A Minimum Instruction Time : 0

Correct Marks : 5 Wrong Marks : 1

Question Key Details :

Key	Value
Comprehension	Comp2

Read the case study and answer the five questions that follow:

Nikita and Ritika are twins. Nikita is intelligent, friendly and popular among her friends. Ritika is shy, withdrawn and feels inferior to her sister. As a child, she felt her parents neglected her and was deeply hurt when they made comparisons. As she grew, these feelings of rejection were reinforced when teachers made statements like, "Look how well Nikita is doing! Why can't you be like her?" Ritika's feelings of rejection only strengthened with time. With the passage of time, Ritika was convinced that she is not good enough and would always be a failure in life.

Which of the following is True about the therapeutic relationship

1. the therapeutic relationships is life long
2. Strict confidentiality must be maintained
3. the therapist must be sympathetic to the client
4. It is not a relationship based on trust

Options :

485584156113. 1
485584156114. 2
485584156115. 3
485584156116. 4

Question Number : 1119 Question Id : 48558439029 Question Type : MCQ Option Shuffling : No Is Question Mandatory : No Calculator : None
Response Time : N.A Think Time : N.A Minimum Instruction Time : 0

Correct Marks : 5 Wrong Marks : 1

Question Key Details :

Key	Value
Comprehension	Comp2

निम्नलिखित मामले को पढ़ें तथा पूछे पाँच प्रश्नों के उत्तर दें।

नीतिका तथा रीतिका दोनों जुड़वाँ बहनें हैं। नीतिका बुद्धिमान है, सबसे धुल मिल जाती है तथा मित्रों में प्रसिद्ध है। रीतिका शर्मिली है, गैर-सामाजिक है तथा अपनी बहिन से हीन महसूस करती है। जब वह छोटी थी तो उसे लगता था कि उसके माता-पिता उसे नजर-अंदाज करते हैं और जब वे दोनों की तुलना करते थे तो उसे बहुत अधिक चोट पहुँचती थी। जब वह बड़ी हुई तो उन अस्वीकृत होने की भावनाओं को और बल मिला जब उसके शिक्षकों ने कहीं "देखो, नीतिका अच्छा कर रही है।" तुम उसके जैसे क्यों नहीं बनती?

रीतिका की अस्वीकृत होने की भावना समय के साथ और भी सशक्त गई। समय के साथ रीतिका ने यह मान लिया कि वह रूप से समर्थ नहीं है तथा वह जीवन में सदा असफल रहेगी।

चिकित्सक संबंधों के विषय में निम्न में से क्या सही है?

1. चिकित्सकीय संबंध जीवनपर्यंत चलते हैं।
2. गोपनीयता का पालन पूरी सख्ती से होता चाहिए।
3. चिकित्सक को आश्रित के साथ सहानुभूति रखनी चाहिए।
4. यह विश्वास आधारित संबंध नहीं है।

Options :

485584156113. 1
485584156114. 2
485584156115. 3
485584156116. 4

Question Number : 1120 Question Id : 48558439030 Question Type : MCQ Option Shuffling : No Is Question Mandatory : No Calculator : None
Response Time : N.A Think Time : N.A Minimum Instruction Time : 0

Correct Marks : 5 Wrong Marks : 1

Question Key Details :

Key	Value
Comprehension	Comp2

Read the case study and answer the five questions that follow:

Nikita and Ritika are twins. Nikita is intelligent, friendly and popular among her friends. Ritika is shy, withdrawn and feels inferior to her sister. As a child, she felt her parents neglected her and was deeply hurt when they made comparisons. As she grew, these feelings of rejection were reinforced when teachers made statements like, "Look how well Nikita is doing! Why can't you be like her?" Ritika's feelings of rejection only strengthened with time. With the passage of time, Ritika was convinced that she is not good enough and would always be a failure in life.

Match List I with List II

LIST I		LIST II	
A.	Behaviour therapy	I.	Unresolved childhood fears
B.	Psychodynamic therapy	II.	feelings of loneliness and alienation
C.	Existential therapy	III.	faulty learning
D.	Cognitive therapy	IV.	faulty thinking

Choose the correct answer from the options given below:

1. A-I, B-IV, C-III, D-II
2. A-IV, B-III, C-II, D-I
3. A-II, B-IV, C-I, D-III
4. A-III, B-I, C-II, D-IV

Options :

485584156117. 1
485584156118. 2
485584156119. 3
485584156120. 4

Question Number : 1120 Question Id : 48558439030 Question Type : MCQ Option Shuffling : No Is Question Mandatory : No Calculator : None

Response Time : N.A Think Time : N.A Minimum Instruction Time : 0

Correct Marks : 5 Wrong Marks : 1

Question Key Details :

Key	Value
Comprehension	Comp2

निम्नलिखित मामले को पढ़ें तथा पूछे पाँच प्रश्नों के उत्तर दें।

नितिका तथा रितिका दोनों जुड़वाँ बहनें हैं। नितिका बुद्धिमान है, सबसे घुल मिल जाती है तथा मित्रों में प्रसिद्ध है। रितिका शर्माली है, गैर-सामाजिक है तथा अपनी बहिन से हीन महसूस करती है। जब वह छोटी थी तो उसे लगता था कि उसके माता-पिता उसे नजर-अंदाज करते हैं और जब वे दोनों की तुलना करते थे तो उसे बहुत अधिक चोट पहुँचती थी। जब वह बड़ी हुई तो उन अस्वीकृत होने की भावनाओं को और बल मिला जब उसके शिक्षकों ने कहीं "देखो, नितिका अच्छा कर रही है।" तुम उसके जैसे क्यों नहीं बनती?

रितिका की अस्वीकृत होने की भावना समय के साथ और भी सशक्त गई। समय के साथ रितिका ने यह मान लिया कि वह रूप से समर्थ नहीं है तथा वह जीवन में सदा असफल रहेगी।

सूची I का सूची II से मिलान कीजिए

सूची I		सूची II	
A.	व्यवहारत्मक चिकित्सा उपचार	I.	बचपन के अनिराकृत उद
B.	मनोगतिक चिकित्सा उपचार	II.	अकेलेपन तथा अन्यदेसी होने की भावना
C.	अस्तित्वपरक चिकित्सा उपचार	III.	त्रुटिपूर्ण अक्षिगम
D.	बोधाल्मक चिकित्सा उपचार	IV.	त्रुटिपूर्ण

निम्नलिखित विकल्पों में से सही उत्तर का चयन कीजिए :

1. A-I, B-IV, C-III, D-II
2. A-IV, B-III, C-II, D-I
3. A-II, B-IV, C-I, D-III
4. A-III, B-I, C-II, D-IV

Options :

485584156117. 1
485584156118. 2
485584156119. 3
485584156120. 4

Sociology

Group Number :	23
Group Id :	485584904
Group Maximum Duration :	45
Group Minimum Duration :	45
Show Attended Group? :	No
Edit Attended Group? :	No
Break time :	0
Group Marks :	200
Is this Group for Examiner? :	No
Examiner permission :	Cant View
Show Progress Bar? :	No

Sociology

Section Id :	4855841048
Section Number :	1
Section type :	Online
Mandatory or Optional :	Mandatory
Number of Questions :	50
Number of Questions to be attempted :	40
Section Marks :	200
Enable Mark as Answered Mark for Review and Clear Response :	Yes
Maximum Instruction Time :	0
Sub-Section Number :	1
Sub-Section Id :	4855842964
Question Shuffling Allowed :	Yes
Is Section Default? :	null

Question Number : 1121 Question Id : 48558439031 Question Type : MCQ Option Shuffling : No Is Question Mandatory : No Calculator : None
Response Time : N.A Think Time : N.A Minimum Instruction Time : 0
Correct Marks : 5 Wrong Marks : 1
Question Key Details :

Key	Value
-----	-------

Which of the following is important goal of National Health Policy 2017.

1. increase life expectancy at birth from 60 to 70 by 2025
2. increase life expectancy at birth from 65 to 70 by 2025
3. increase life expectancy at birth from 67.5 to 70 by 2025
4. increase life expectancy at birth from 70.5 to 80 by 2025

Options :

485584156121. 1
485584156122. 2
485584156123. 3
485584156124. 4

Question Number : 1121 Question Id : 48558439031 Question Type : MCQ Option Shuffling : No Is Question Mandatory : No Calculator : None Response Time : N.A Think Time : N.A Minimum Instruction Time : 0 Correct Marks : 5 Wrong Marks : 1

Question Key Details :

Key	Value
Comprehension	MCQ

निम्न में से कौनसा, राष्ट्रीय स्वास्थ्य नीति 2017, का मुख्य लक्ष्य है?

1. जीवन की प्रत्याशा में वृद्धि जन्म पर 60 से 70 तक 2025 में
2. जीवन की प्रत्याशा में वृद्धि जन्म पर 65 से 70 तक 2025 में
3. जीवन की प्रत्याशा में वृद्धि जन्म पर 67.5 से 70 तक 2025 में
4. जीवन की प्रत्याशा में वृद्धि जन्म पर 70.5 से 80 तक 2025 में

Options :

485584156121. 1
485584156122. 2
485584156123. 3
485584156124. 4

Question Number : 1122 Question Id : 48558439032 Question Type : MCQ Option Shuffling : No Is Question Mandatory : No Calculator : None Response Time : N.A Think Time : N.A Minimum Instruction Time : 0

Correct Marks : 5 Wrong Marks : 1

Question Key Details :

Key	Value
Comprehension	MCQ

What does population pyramid show?

1. Age, birth rate, growth
2. Birth rate, gender, life expectancy
3. Life expectancy, Birthrate, Age
4. Age, gender, growth

Options :

485584156125. 1
485584156126. 2
485584156127. 3

Question Number : 1122 Question Id : 48558439032 Question Type : MCQ Option Shuffling : No Is Question Mandatory : No Calculator : None
 Response Time : N.A Think Time : N.A Minimum Instruction Time : 0
 Correct Marks : 5 Wrong Marks : 1
 Question Key Details :

Key	Value
Comprehension	MCQ

जनसंख्या सूचीस्तम्भ (पिरामिड) क्या दर्शाता है?

1. आयु, जन्म दर, विकास
2. जन्मदर, लिंग, जीवन प्रत्याशा
3. जीवन प्रत्याशा, जन्म दर, आयु
4. आयु, लिंग, विकास

Options :

485584156125. 1
 485584156126. 2
 485584156127. 3
 485584156128. 4

Question Number : 1123 Question Id : 48558439033 Question Type : MCQ Option Shuffling : No Is Question Mandatory : No Calculator : None
 Response Time : N.A Think Time : N.A Minimum Instruction Time : 0
 Correct Marks : 5 Wrong Marks : 1
 Question Key Details :

Key	Value
Comprehension	MCQ

Put the following statements in correct sequence :

- A. Vast numbers of poor and powerless people were forcibly sterilised.
- B. The National Family Planning Program was renamed as National Family Welfare Program
- C. The Population Policy took the concrete form of National Family Planning Program
- D. The Government of India came up with National Health Policy which incorporated the socio-demographic goals.

Choose the correct answer from the options given below:

1. A, B, C, D
2. A, C, B, D
3. C, B, D, A
4. C, A, B, D

Options :

485584156129. 1
 485584156130. 2
 485584156131. 3
 485584156132. 4

Question Number : 1123 Question Id : 48558439033 Question Type : MCQ Option Shuffling : No Is Question Mandatory : No Calculator : None
 Response Time : N.A Think Time : N.A Minimum Instruction Time : 0
 Correct Marks : 5 Wrong Marks : 1
 Question Key Details :

Key	Value
Comprehension	MCQ

निम्नलिखित कथनों को सही क्रम में रखें:

- बढ़ती संख्या में गरीब व शक्तिहीन लोगों को बलपूर्वक रोगाणुरहित करना
- राष्ट्रीय परिवार नियोजन कार्यक्रम को राष्ट्रीय परिवार कल्याण कार्यक्रम में पुर्नःनामित किया गया।
- जनसंख्या नीति ठोस रूप लिया राष्ट्रीय परिवार नियोजन कार्यक्रम से
- भारत सरकार ने राष्ट्रीय स्वास्थ्य नीति के माध्यम से सामाजिक लक्ष्यों को शामिल किया।

निम्नलिखित विकल्पों में से सही उत्तर का चयन कीजिए:

- A, B, C, D
- A, C, B, D
- C, B, D, A
- C, A, B, D

Options :

485584156129. 1
485584156130. 2
485584156131. 3
485584156132. 4

**Question Number : 1124 Question Id : 48558439034 Question Type : MCQ Option Shuffling : No Is Question Mandatory : No Calculator : None
Response Time : N.A Think Time : N.A Minimum Instruction Time : 0
Correct Marks : 5 Wrong Marks : 1**

Question Key Details :

Key	Value
Comprehension	MCQ

Critics argue problems with poverty and starvation are due to unequal distribution of resources?

- Rural
- Financial
- Agricultural
- Economic

Options :

485584156133. 1
485584156134. 2
485584156135. 3
485584156136. 4

**Question Number : 1124 Question Id : 48558439034 Question Type : MCQ Option Shuffling : No Is Question Mandatory : No Calculator : None
Response Time : N.A Think Time : N.A Minimum Instruction Time : 0
Correct Marks : 5 Wrong Marks : 1**

Question Key Details :

Key	Value
Comprehension	MCQ

आलोचक मरीची व भूखमरी की समस्या के संबंध में यह तर्क देते हैं कि यह संसाधनों के असमान वितरण के कारण है।

1. ग्रामीण
2. वित्तीय
3. कृषि
4. आर्थिक

Options :

485584156133. 1
485584156134. 2
485584156135. 3
485584156136. 4

Question Number : 1125 Question Id : 48558439035 Question Type : MCQ Option Shuffling : No Is Question Mandatory : No Calculator : None Response Time : N.A Think Time : N.A Minimum Instruction Time : 0

Correct Marks : 5 Wrong Marks : 1

Question Key Details :

Key	Value
Comprehension	MCQ

Emile Durkheim is famous for his study on:

1. Suicide
2. Women
3. Children
4. Birth

Options :

485584156137. 1
485584156138. 2
485584156139. 3
485584156140. 4

Question Number : 1125 Question Id : 48558439035 Question Type : MCQ Option Shuffling : No Is Question Mandatory : No Calculator : None Response Time : N.A Think Time : N.A Minimum Instruction Time : 0

Correct Marks : 5 Wrong Marks : 1

Question Key Details :

Key	Value
Comprehension	MCQ

ईमाल दरखुईम (Emile Durkheim) अपनी इस अध्ययन के लिए प्रसिद्ध थे।

1. आत्महत्या
2. स्त्री
3. बच्चे
4. जन्म

Options :

485584156137. 1
485584156138. 2
485584156139. 3
485584156140. 4

Question Number : 1126 Question Id : 48558439036 Question Type : MCQ Option Shuffling : No Is Question Mandatory : No Calculator : None
Response Time : N.A Think Time : N.A Minimum Instruction Time : 0
Correct Marks : 5 Wrong Marks : 1
Question Key Details :

Key	Value
Comprehension	MCQ

Which of the following statements is incorrect for 'Savitri Bai Phule'?

1. She was the first headmistress of the country's first school for girls in Pune.
2. She devoted her life to educating Shudras and Ati-shudras.
3. She died while serving plague patients.
4. She founded the Sarya Shodhak Samaj.

Options :

485584156141. 1
485584156142. 2
485584156143. 3
485584156144. 4

Question Number : 1126 Question Id : 48558439036 Question Type : MCQ Option Shuffling : No Is Question Mandatory : No Calculator : None
Response Time : N.A Think Time : N.A Minimum Instruction Time : 0

Correct Marks : 5 Wrong Marks : 1

Question Key Details :

Key	Value
Comprehension	MCQ

निम्न में से कौन सा कथन 'सावित्री बाई फूले' के संबंध में सही नहीं है?

1. वह पुणे में पहले बालिका विद्यालय की मुख्य अध्यापिका थीं।
2. उन्होंने अपना जीवन शुद्र व अतिशुद्रों की शिक्षा के लिए समर्पित किया।
3. उनकी मृत्यु प्लेग रोगियों की सेवा करते हुए हुई।
4. उन्होंने सत्य शोधक समाज की स्थापना की।

Options :

485584156141. 1
485584156142. 2
485584156143. 3
485584156144. 4

Question Number : 1127 Question Id : 48558439037 Question Type : MCQ Option Shuffling : No Is Question Mandatory : No Calculator : None
Response Time : N.A Think Time : N.A Minimum Instruction Time : 0

Correct Marks : 5 Wrong Marks : 1

Question Key Details :

Key	Value
Comprehension	MCQ

Match List I with List II

LIST I		LIST II	
Social Reformers		Contribution	
A.	J. G. Phule	I.	Preached brotherhood for all
B.	Ayyankali	II.	Spread awareness about liberty and equality being birth right
C.	Periyar	III.	Dalit children allowed to join school
D.	Sri. Narayan Guru	IV.	Worked for securing social justice for low caste people

Choose the correct answer from the options given below:

1. A-I, B-II, C-III, D-IV
2. A-II, B-III, C-IV, D-I
3. A-I, B-II, C-IV, D-III
4. A-IV, B-III, C-II, D-I

Options :

485584156145. 1
485584156146. 2
485584156147. 3
485584156148. 4

Question Number : 1127 Question Id : 48558439037 Question Type : MCQ Option Shuffling : No Is Question Mandatory : No Calculator : None
Response Time : N.A Think Time : N.A Minimum Instruction Time : 0
Correct Marks : 5 Wrong Marks : 1

Question Key Details :

Key	Value
Comprehension	MCQ

सूची I का सूची II से मिलान कीजिए

सूची I		सूची II	
A.	जे.जी. फूले	I.	सभी को भाईचारा का उपदेश दिया
B.	अय्यनकाली	II.	स्वतन्त्रता और समानता जन्म सिद्ध अधिकार के बारे में जागरूकता फैलाना
C.	पेरियार	III.	दलित बच्चों को स्कूल भेजना
D.	श्री. नारायण गुरु	IV.	निम्न जाति के लोगों को सामाजिक सुरक्षा देने का काम किया

निम्नलिखित विकल्पों में से सही उत्तर का चयन कीजिए :

1. A-I, B-II, C-III, D-IV
2. A-II, B-III, C-IV, D-I
3. A-I, B-II, C-IV, D-III
4. A-IV, B-III, C-II, D-I

Options :

485584156145. 1
485584156146. 2
485584156147. 3
485584156148. 4

Question Number : 1128 Question Id : 48558439038 Question Type : MCQ Option Shuffling : No Is Question Mandatory : No Calculator : None
Response Time : N.A Think Time : N.A Minimum Instruction Time : 0
Correct Marks : 5 Wrong Marks : 1

Question Key Details :

Key	Value
Comprehension	MCQ

On the basis of the languages tribes are categorized into

1. four categories
2. two categories
3. three categories
4. five categories

Options :

485584156149. 1
485584156150. 2
485584156151. 3
485584156152. 4

Question Number : 1128 Question Id : 48558439038 Question Type : MCQ Option Shuffling : No Is Question Mandatory : No Calculator : None Response Time : N.A Think Time : N.A Minimum Instruction Time : 0

Correct Marks : 5 Wrong Marks : 1

Question Key Details :

Key	Value
Comprehension	MCQ

भाषा के आधार पर जातियों को वर्गीकृत किया गया

1. चार वर्गों में
2. दो वर्गों में
3. तीन वर्गों में
4. पाँच वर्गों में

Options :

485584156149. 1
485584156150. 2
485584156151. 3
485584156152. 4

Question Number : 1129 Question Id : 48558439039 Question Type : MCQ Option Shuffling : No Is Question Mandatory : No Calculator : None Response Time : N.A Think Time : N.A Minimum Instruction Time : 0

Correct Marks : 5 Wrong Marks : 1

Question Key Details :

Key	Value
Comprehension	MCQ

An instrument of exchange and credit which allows merchants to engage in long distance trade was called

1. Hundi
2. Cheque
3. Udhur Khata
4. Nagdi

Options :

485584156153. 1
485584156154. 2

485584156155. 3
485584156156. 4

Question Number : 1129 Question Id : 48558439039 Question Type : MCQ Option Shuffling : No Is Question Mandatory : No Calculator : None
Response Time : N.A Think Time : N.A Minimum Instruction Time : 0
Correct Marks : 5 Wrong Marks : 1

Question Key Details :

Key	Value
Comprehension	MCQ

लंबी दूरी के व्यवसाय में व्यापारी विनिमय और ऋण के लिए जिस साधन का प्रयोग किया जाता है।

1. हुंडी
2. चेक
3. उधार खाता
4. नगदी

Options :

485584156153. 1
485584156154. 2
485584156155. 3
485584156156. 4

Question Number : 1130 Question Id : 48558439040 Question Type : MCQ Option Shuffling : No Is Question Mandatory : No Calculator : None
Response Time : N.A Think Time : N.A Minimum Instruction Time : 0
Correct Marks : 5 Wrong Marks : 1

Question Key Details :

Key	Value
Comprehension	MCQ

Sections of Indian industry (like software and information technology) have tremendously done well at the global level. Which factor has contributed for its development?

1. Commodification
2. Liberalisation
3. Capitalisation
4. Status symbol

Options :

485584156157. 1
485584156158. 2
485584156159. 3
485584156160. 4

Question Number : 1130 Question Id : 48558439040 Question Type : MCQ Option Shuffling : No Is Question Mandatory : No Calculator : None
Response Time : N.A Think Time : N.A Minimum Instruction Time : 0
Correct Marks : 5 Wrong Marks : 1

Question Key Details :

Key	Value
Comprehension	MCQ

भारतीय उद्योग के वर्ग सूचना एवं पौद्योगिकी विश्व स्तर पर शानदार प्रदर्शन किया है। किस कारक ने इसके विकास में योगदान किया है।

1. वस्तुकरण
2. उदारीकरण
3. पूंजीकरण
4. स्टेट्स सिंबल (पहचान चिन्ह)

Options :

485584156157. 1
485584156158. 2
485584156159. 3
485584156160. 4

Question Number : 1131 Question Id : 48558439041 Question Type : MCQ Option Shuffling : No Is Question Mandatory : No Calculator : None Response Time : N.A Think Time : N.A Minimum Instruction Time : 0

Correct Marks : 5 Wrong Marks : 1

Question Key Details :

Key	Value
Comprehension	MCQ

Match List I with List II

LIST I		LIST II	
A.	R. Ellison	I.	Caste: Its modern Avatar
B.	C. J. Fuller	II.	Invisible Man
C.	M. N. Srinivas	III.	Sociology
D.	Anthony Giddens	IV.	Caste Today

Choose the correct answer from the options given below:

1. A-III, B-II, C-IV, D-I
2. A-I, B-II, C-III, D-IV
3. A-II, B-IV, C-I, D-III
4. A-IV, B-III, C-II, D-I

Options :

485584156161. 1
485584156162. 2
485584156163. 3
485584156164. 4

Question Number : 1131 Question Id : 48558439041 Question Type : MCQ Option Shuffling : No Is Question Mandatory : No Calculator : None Response Time : N.A Think Time : N.A Minimum Instruction Time : 0

Correct Marks : 5 Wrong Marks : 1

Question Key Details :

Key	Value
Comprehension	MCQ

सूची I का सूची II से मिलान कीजिए

सूची I		सूची II	
A.	आर. एलिसन	I.	कास्ट. इट्स मॉडर्न अवतार
B.	सी. जे. फूलर	II.	इन्विजिबल मैन
C.	एम. एन. श्रीनिवास	III.	सोशियोलॉजी
D.	एन्थोनी गौडनस	IV.	कास्ट टुडे

निम्नलिखित विकल्पों में से सही उत्तर का चयन कीजिए :

1. A-III, B-II, C-IV, D-I
2. A-I, B-II, C-III, D-IV
3. A-II, B-IV, C-I, D-III
4. A-IV, B-III, C-II, D-I

Options :

485584156161. 1
485584156162. 2
485584156163. 3
485584156164. 4

Question Number : 1132 **Question Id :** 48558439042 **Question Type :** MCQ **Option Shuffling :** No **Is Question Mandatory :** No **Calculator :** None
Response Time : N.A **Think Time :** N.A **Minimum Instruction Time :** 0

Correct Marks : 5 **Wrong Marks :** 1

Question Key Details :

Key	Value
Comprehension	MCQ

The dalit panthers group emerged in

1. Northern India
2. Western India
3. Southern India
4. Eastern India

Options :

485584156165. 1
485584156166. 2
485584156167. 3
485584156168. 4

Question Number : 1132 **Question Id :** 48558439042 **Question Type :** MCQ **Option Shuffling :** No **Is Question Mandatory :** No **Calculator :** None
Response Time : N.A **Think Time :** N.A **Minimum Instruction Time :** 0

Correct Marks : 5 **Wrong Marks :** 1

Question Key Details :

Key	Value
Comprehension	MCQ

दलित पैंथर्स समूह कहीं उभर कर आया ।

1. उत्तर भारत
2. पश्चिम भारत
3. दक्षिण भारत
4. पूर्व भारत

Options :

485584156165. 1
485584156166. 2
485584156167. 3
485584156168. 4

Question Number : 1133 Question Id : 48558439043 Question Type : MCQ Option Shuffling : No Is Question Mandatory : No Calculator : None Response Time : N.A Think Time : N.A Minimum Instruction Time : 0

Correct Marks : 5 Wrong Marks : 1

Question Key Details :

Key	Value
Comprehension	MCQ

Social Exclusion is justified by

1. arguing exclusion is natural
2. arguing exclusion is inevitable
3. arguing excluded people consent to it
4. arguing exclusion is when people do not participate on their own

Options :

485584156169. 1
485584156170. 2
485584156171. 3
485584156172. 4

Question Number : 1133 Question Id : 48558439043 Question Type : MCQ Option Shuffling : No Is Question Mandatory : No Calculator : None Response Time : N.A Think Time : N.A Minimum Instruction Time : 0

Correct Marks : 5 Wrong Marks : 1

Question Key Details :

Key	Value
Comprehension	MCQ

सामाजिक बहिष्कर न्यायोचित है

1. बहिष्कार स्वभाविक है
2. बहिष्कार अनिवार्य है
3. बहिष्कृत लोगों की सहमति से
4. बहिष्कार तब माना जाता है जब लोग समाज में शामिल नहीं हो पाते हैं

Options :

485584156169. 1
485584156170. 2
485584156171. 3
485584156172. 4

Question Number : 1134 Question Id : 48558439044 Question Type : MCQ Option Shuffling : No Is Question Mandatory : No Calculator : None
Response Time : N.A Think Time : N.A Minimum Instruction Time : 0
Correct Marks : 5 Wrong Marks : 1

Question Key Details :

Key	Value
Comprehension	MCQ

Match List I with List II

LIST I		LIST II	
A.	Aggressive chauvinism based on religious identity.	I.	Secularism
B.	Based on common descent in addition to other commonalities of language or culture.	II.	Authoritarianism
C.	When state does not follow any particular religion over others.	III.	Communalism
D.	A state in which the people have no voice and those in power are not accountable to anyone.	IV.	Ethnic group

Choose the correct answer from the options given below:

1. A-II, B-IV, C-I, D-III
2. A-I, B-II, C-IV, D-III
3. A-IV, B-II, C-I, D-III
4. A-III, B-IV, C-I, D-II

Options :

- 485584156173. 1
- 485584156174. 2
- 485584156175. 3
- 485584156176. 4

Question Number : 1134 Question Id : 48558439044 Question Type : MCQ Option Shuffling : No Is Question Mandatory : No Calculator : None
Response Time : N.A Think Time : N.A Minimum Instruction Time : 0

Correct Marks : 5 Wrong Marks : 1

Question Key Details :

Key	Value
Comprehension	MCQ

सूची I का सूची II से मिलान कीजिए

सूची I		सूची II	
A.	आक्रमक रूढ़ीवाद का आधार धार्मिक पहचान है	I.	धर्म निर्पेक्षता
B.	भाषा या संस्कृति की अन्य समानताओं पर आधारित	II.	अधिनायकवाद
C.	जब राज्य किसी विशेष धर्म को दूसरे धर्म पर वरीयता नहीं देता है	III.	साम्प्रदायिकता
D.	एक ऐसा राज्य जिसमें लोगों की सुनवाई नहीं है। और जो सत्ता में हैं उनकी कोई जवाब देही नहीं है	IV.	जातीय समूह

निम्नलिखित विकल्पों में से सही उत्तर का चयन कीजिए :

1. A-II, B-IV, C-I, D-III
2. A-I, B-II, C-IV, D-III
3. A-IV, B-II, C-I, D-III
4. A-III, B-IV, C-I, D-II

Options :

485584156173. 1

485584156174. 2

485584156175. 3

485584156176. 4

Question Number : 1135 Question Id : 48558439045 Question Type : MCQ Option Shuffling : No Is Question Mandatory : No Calculator : None Response Time : N.A Think Time : N.A Minimum Instruction Time : 0

Correct Marks : 5 Wrong Marks : 1

Question Key Details :

Key	Value
Comprehension	MCQ

Most states in India are created on linguistic basis except Chattisgarh, Uttranchal and Jharkhand. On what basis are these state created?

1. Administrative
2. Ethnicity
3. Linguistic
4. Special status

Options :

485584156177. 1

485584156178. 2

485584156179. 3

485584156180. 4

Question Number : 1135 Question Id : 48558439045 Question Type : MCQ Option Shuffling : No Is Question Mandatory : No Calculator : None Response Time : N.A Think Time : N.A Minimum Instruction Time : 0

Correct Marks : 5 Wrong Marks : 1

Question Key Details :

Key	Value
Comprehension	MCQ

भारत में अधिकतर राज्यों का गठन भाषा के आधार पर हुआ है। छत्तीसगढ़, उत्तरांचल और झारखण्ड राज्यों का गठन किस आधार पर हुआ।

1. प्रशासनिक
2. जातिपता
3. भाषाई
4. विशेष दर्जा

Options :

485584156177. 1
485584156178. 2
485584156179. 3
485584156180. 4

Question Number : 1136 **Question Id :** 48558439046 **Question Type :** MCQ **Option Shuffling :** No **Is Question Mandatory :** No **Calculator :** None
Response Time : N.A **Think Time :** N.A **Minimum Instruction Time :** 0

Correct Marks : 5 **Wrong Marks :** 1

Question Key Details :

Key	Value
Comprehension	MCQ

Match the concepts in List I with their explanation in List II

LIST I		LIST II	
A.	Community identity	I.	Gandhian follower whose death led to creation of state of Andhra Pradesh
B.	State	II.	Section of Indian constitution on minorities and cultural diversity
C.	Potti Sriramulu	III.	Identity based on birth and belonging
D.	Article 29 and 30	IV.	an abstract entity consisting of set of political-legal institution controlling a geographical territory and people living in it

Choose the correct answer from the options given below:

1. A-I, B-II, C-IV, D-III
2. A-II, B-I, C-III, D-IV
3. A-IV, B-III, C-II, D-I
4. A-III, B-IV, C-I, D-II

Options :

485584156181. 1
485584156182. 2
485584156183. 3
485584156184. 4

Question Number : 1136 **Question Id :** 48558439046 **Question Type :** MCQ **Option Shuffling :** No **Is Question Mandatory :** No **Calculator :** None
Response Time : N.A **Think Time :** N.A **Minimum Instruction Time :** 0

Correct Marks : 5 **Wrong Marks :** 1

Question Key Details :

Key	Value
Comprehension	MCQ

सूची I का सूची II से मिलान कीजिए

सूची I		सूची II	
A.	सामुदायिक पहचान	I.	गाँधी वादी अनुरागी की मृत्यु के पश्चात औंध प्रदेश राज्य का गठन हुआ
B.	राष्ट्र	II.	भारतीय संविधान के अनुच्छेद, अल्पसंख्यक और सांस्कृतिक विविधता पर है
C.	पोसी श्रीरामूलू	III.	जन्म एवं अपने पन पर पहचान करना
D.	धारा 29 और 30	IV.	एक ऐसा अमूर्त सत्य जिसमें राजनीतिक-विधिक संस्थाओं के समुच्चय समाहित होते हैं और वह एक खास भौगोलिक क्षेत्र पर और उसमें रहने वाले लोगों पर अपना नियन्त्रण रखता है।

निम्नलिखित विकल्पों में से सही उत्तर का चयन कीजिए :

1. A-I, B-II, C-IV, D-III
2. A-II, B-I, C-III, D-IV
3. A-IV, B-III, C-II, D-I
4. A-III, B-IV, C-I, D-II

Options :

485584156181. 1
485584156182. 2
485584156183. 3
485584156184. 4

Question Number : 1137 Question Id : 48558439047 Question Type : MCQ Option Shuffling : No Is Question Mandatory : No Calculator : None Response Time : N.A Think Time : N.A Minimum Instruction Time : 0

Correct Marks : 5 Wrong Marks : 1

Question Key Details :

Key	Value
Comprehension	MCQ

A law enacted by the Parliament of India giving Indians access to government records is called:

1. Right to Education
2. Right to Information
3. Right to form Civil Society
4. Right against Exploitation

Options :

485584156185. 1
485584156186. 2
485584156187. 3
485584156188. 4

Question Number : 1137 Question Id : 48558439047 Question Type : MCQ Option Shuffling : No Is Question Mandatory : No Calculator : None Response Time : N.A Think Time : N.A Minimum Instruction Time : 0

Correct Marks : 5 Wrong Marks : 1

Question Key Details :

Key	Value
Comprehension	MCQ

भारतीय संसद द्वारा बनाया गया कानून जो भारतीय को सरकारी अभिलेखों को जानने का अधिकार देता है।

1. शिक्षा का अधिकार
2. सूचना का अधिकार
3. नागरिक समीति बनाने का अधिकार
4. शोषण के विरुद्ध अधिकार

Options :

485584156185. 1
485584156186. 2
485584156187. 3
485584156188. 4

Question Number : 1138 Question Id : 48558439048 Question Type : MCQ Option Shuffling : No Is Question Mandatory : No Calculator : None

Response Time : N.A Think Time : N.A Minimum Instruction Time : 0

Correct Marks : 5 Wrong Marks : 1

Question Key Details :

Key	Value
Comprehension	MCQ

Arrange the following communities in descending order of their population as per Census 2011.

- A. Sikh
- B. Buddhist
- C. Jain
- D. Christian

Choose the correct answer from the options given below:

1. D, A, B, C
2. A, B, C, D
3. C, A, B, D
4. B, D, A, C

Options :

485584156189. 1
485584156190. 2
485584156191. 3
485584156192. 4

Question Number : 1138 Question Id : 48558439048 Question Type : MCQ Option Shuffling : No Is Question Mandatory : No Calculator : None

Response Time : N.A Think Time : N.A Minimum Instruction Time : 0

Correct Marks : 5 Wrong Marks : 1

Question Key Details :

Key	Value
Comprehension	MCQ

2011 की जनगणना के आधार पर निम्न समूहों को अवरोही क्रम में व्यवस्थित करें।

- A. सिक्ख
- B. बुद्धीष्ट
- C. जैन
- D. इसाई

नीचे दिए गए विकल्पों में से सही उत्तर का चयन कीजिए-

- 1. D, A, B, C
- 2. A, B, C, D
- 3. C, A, B, D
- 4. B, D, A, C

Options :

- 485584156189. 1
- 485584156190. 2
- 485584156191. 3
- 485584156192. 4

Question Number : 1139 Question Id : 48558439049 Question Type : MCQ Option Shuffling : No Is Question Mandatory : No Calculator : None Response Time : N.A Think Time : N.A Minimum Instruction Time : 0

Correct Marks : 5 Wrong Marks : 1

Question Key Details :

Key	Value
Comprehension	MCQ

Arrange the following statement in regard to the background to the States Reorganisation Commission (SRC).

- A. India witnessed vigorous movements that arose among Marathi and Kannada speaking population.
- B. Martyrdom of Sriramulu provoked protests, led to the creation of the state of Andhra Pradesh and formation of SRC.
- C. India along with its freedom was also divided.
- D. In October, a former Gandhian, Potti Sriramulu died seven weeks after beginning a fast unto death.
- E. Congress was hesitant to fulfill its promise in regard to linguistic state as it had witnessed partition as a consequence of intense attachment to one's faith.

Choose the *correct answer* from the options given below:

- 1. C, A, E, B, D
- 2. B, C, D, E, A
- 3. C, E, A, D, B
- 4. C, A, D, B, E

Options :

- 485584156193. 1
- 485584156194. 2
- 485584156195. 3
- 485584156196. 4

Question Number : 1139 Question Id : 48558439049 Question Type : MCQ Option Shuffling : No Is Question Mandatory : No Calculator : None Response Time : N.A Think Time : N.A Minimum Instruction Time : 0

Correct Marks : 5 Wrong Marks : 1

Question Key Details :

Key	Value
Comprehension	MCQ

निम्नलिखित कथनों को राज्य पुनर्गठन आयोग की पृष्ठभूमि में व्यवस्थित करें।

- भारत इस बात का गवाह है कि ययहाँ मराठी और कन्नड भाषाई जनों ने बड़े आन्दोलन छेड दिए ।
- श्रीरामूलू के बलिदान ने विरोधी को बढ़ा दिया परिणामस्वरूप आंध्र प्रदेश और एस आर सी की स्थापना हुई ।
- अक्टूबर में, एक पूर्व गांधीवादी नेता पोत्ती श्रीरामूलू आमरण अनशन पर बैठ गए और सात सप्ताह बाद उनकी मृत्यु हो गई ।
- लोगों के विश्वास और गहरे लगाव की वजह से देश के विभाजन के परिणामस्वरूप कांग्रेस भाषायी राज्यों के वादे को पूरे करने में हिचकिचाहट दिखाई ।

नीचे दिए गए विकल्पों में से सही उत्तर का चयन कीजिए-

- C, A, E, B, D
- B, C, D, E, A
- C, E, A, D, B
- C, A, D, B, E

Options :

485584156193. 1
485584156194. 2
485584156195. 3
485584156196. 4

Question Number : 1140 Question Id : 48558439050 Question Type : MCQ Option Shuffling : No Is Question Mandatory : No Calculator : None Response Time : N.A Think Time : N.A Minimum Instruction Time : 0

Correct Marks : 5 Wrong Marks : 1

Question Key Details :

Key	Value
Comprehension	MCQ

Who coined the term westernisation?

- Tiplut Nongbri
- B. R. Ambedkar
- Ravi Varma
- M. N. Srinivas

Options :

485584156197. 1
485584156198. 2
485584156199. 3
485584156200. 4

Question Number : 1140 Question Id : 48558439050 Question Type : MCQ Option Shuffling : No Is Question Mandatory : No Calculator : None Response Time : N.A Think Time : N.A Minimum Instruction Time : 0

Correct Marks : 5 Wrong Marks : 1

Question Key Details :

Key	Value
Comprehension	MCQ

पश्चिमीकरण शब्द किसने दिया।

1. तिलक नागवरी
2. बी. आर. अम्बेडकर
3. रवि वर्मा
4. एम. एन. श्रीनिवास

Options :

485584156197. 1
485584156198. 2
485584156199. 3
485584156200. 4

Question Number : 1141 Question Id : 48558439051 Question Type : MCQ Option Shuffling : No Is Question Mandatory : No Calculator : None Response Time : N.A Think Time : N.A Minimum Instruction Time : 0 Correct Marks : 5 Wrong Marks : 1

Question Key Details :

Key	Value
Comprehension	MCQ

Who defined western nationalism as exclusive nationalism?

1. J. Nehru
2. R. Tagore
3. K. Marx
4. E. Durkheim

Options :

485584156201. 1
485584156202. 2
485584156203. 3
485584156204. 4

Question Number : 1141 Question Id : 48558439051 Question Type : MCQ Option Shuffling : No Is Question Mandatory : No Calculator : None Response Time : N.A Think Time : N.A Minimum Instruction Time : 0 Correct Marks : 5 Wrong Marks : 1

Question Key Details :

Key	Value
Comprehension	MCQ

किसने पश्चिमी राष्ट्रवाद को अपवर्जनात्मक राष्ट्रवाद के रूप में परिभाषित किया

1. जे. नेहरू
2. आर. टैगोर
3. के. मार्क्स
4. ई. दूरखेम

Options :

485584156201. 1
485584156202. 2
485584156203. 3
485584156204. 4

Question Number : 1142 Question Id : 48558439052 Question Type : MCQ Option Shuffling : No Is Question Mandatory : No Calculator : None
Response Time : N.A Think Time : N.A Minimum Instruction Time : 0

Correct Marks : 5 Wrong Marks : 1

Question Key Details :

Key	Value
Comprehension	MCQ

Identify the important turning point that led to the conversion of the forest policy in Assam.

1. The advent of the railway in Bengal
2. The advent of British law in Bengal administration
3. The advent of forest law in Britain
4. The First World War

Options :

- 485584156205. 1
- 485584156206. 2
- 485584156207. 3
- 485584156208. 4

Question Number : 1142 Question Id : 48558439052 Question Type : MCQ Option Shuffling : No Is Question Mandatory : No Calculator : None
Response Time : N.A Think Time : N.A Minimum Instruction Time : 0

Correct Marks : 5 Wrong Marks : 1

Question Key Details :

Key	Value
Comprehension	MCQ

उस मुख्य बिन्दु की पहचान करें जिसके कारण असम की वन नीति में परिवर्तन हुआ?

1. रेलवे का बंगाल में आगमन
2. बंगाल प्रशासन में ब्रिटिश कानून का आगमन
3. ब्रिटेन में वन कानून का आगमन
4. प्रथम विश्व युद्ध

Options :

- 485584156205. 1
- 485584156206. 2
- 485584156207. 3
- 485584156208. 4

Question Number : 1143 Question Id : 48558439053 Question Type : MCQ Option Shuffling : No Is Question Mandatory : No Calculator : None
Response Time : N.A Think Time : N.A Minimum Instruction Time : 0

Correct Marks : 5 Wrong Marks : 1

Question Key Details :

Key	Value
Comprehension	MCQ

Match List I with List II

LIST I		LIST II	
A.	Raja Ram Mohan Roy	I.	The Sources of Knowledge
B.	Ranade	II.	Validity of Islam as a free enquiry
C.	Sir Sayed Ahmed Khan	III.	attacked the practice of sati
D.	Kandakuri Viresalingam	IV.	law fulness of the remarriage of widows

Choose the correct answer from the options given below:

1. A-III, B-IV, C-I, D-II
2. A-III, B-I, C-II, D-IV
3. A-III, B-II, C-I, D-IV
4. A-III, B-IV, C-II, D-I

Options :

485584156209. 1

485584156210. 2

485584156211. 3

485584156212. 4

Question Number : 1143 Question Id : 48558439053 Question Type : MCQ Option Shuffling : No Is Question Mandatory : No Calculator : None Response Time : N.A Think Time : N.A Minimum Instruction Time : 0

Correct Marks : 5 Wrong Marks : 1

Question Key Details :

Key	Value
Comprehension	MCQ

सूची I का सूची II से मिलान कीजिए

सूची I		सूची II	
A.	राजा राम मोहन राय	I.	दि सोर्सज ऑफ नॉलेज
B.	रानाडे	II.	वैलिडिटी ऑफ इस्लाम एज़ अ फ्री इन्क्वायरी
C.	सर सैयद अहमद खान	III.	सती प्रथा का विरोध (हमला)
D.	कन्दूकरु विरसालिंगम	IV.	विधवा पुनर्विवाह का विधि सम्मान होना

निम्नलिखित विकल्पों में से सही उत्तर का चयन कीजिए :

1. A-III, B-IV, C-I, D-II
2. A-III, B-I, C-II, D-IV
3. A-III, B-II, C-I, D-IV
4. A-III, B-IV, C-II, D-I

Options :

485584156209. 1

485584156210. 2

485584156211. 3

485584156212. 4

Question Number : 1144 Question Id : 48558439054 Question Type : MCQ Option Shuffling : No Is Question Mandatory : No Calculator : None Response Time : N.A Think Time : N.A Minimum Instruction Time : 0

Correct Marks : 5 Wrong Marks : 1

Question Key Details :

Key	Value
Comprehension	MCQ

The "Vision Mumbai" document catered to the interest of one set of people. Whose interest did it represent?

1. The urban poor and middle class
2. The urban rich and middle class
3. The urban poor
4. The Elite

Options :

485584156213. 1
485584156214. 2
485584156215. 3
485584156216. 4

Question Number : 1144 Question Id : 48558439054 Question Type : MCQ Option Shuffling : No Is Question Mandatory : No Calculator : None Response Time : N.A Think Time : N.A Minimum Instruction Time : 0 Correct Marks : 5 Wrong Marks : 1

Question Key Details :

Key	Value
Comprehension	MCQ

लोगों के समूह विशेष के हित में "विज़न मूम्बा" पत्र तैयार किया गया, यह किसके हित के लिए था?

1. शहरी गरीब एवं मध्यम वर्गीय
2. शहरी अमीर एवं मध्यमवर्गीय
3. शहरी गरीब
4. अभिजात वर्ग

Options :

485584156213. 1
485584156214. 2
485584156215. 3
485584156216. 4

Question Number : 1145 Question Id : 48558439055 Question Type : MCQ Option Shuffling : No Is Question Mandatory : No Calculator : None Response Time : N.A Think Time : N.A Minimum Instruction Time : 0 Correct Marks : 5 Wrong Marks : 1

Question Key Details :

Key	Value
Comprehension	MCQ

Farmer from which states have initiated to enter into contract with multinational companies like Pepsi Co.

- A. Punjab
- B. Kerala
- C. Uttar Pradesh
- D. Karnataka
- E. Delhi

Choose the correct answer from the options given below:

- 1. A & B Only
- 2. E & D Only
- 3. B & C Only
- 4. A & D Only

Options :

- 485584156217. 1
- 485584156218. 2
- 485584156219. 3
- 485584156220. 4

Question Number : 1145 Question Id : 48558439055 Question Type : MCQ Option Shuffling : No Is Question Mandatory : No Calculator : None Response Time : N.A Think Time : N.A Minimum Instruction Time : 0

Correct Marks : 5 Wrong Marks : 1

Question Key Details :

Key	Value
Comprehension	MCQ

किस राज्य के किसानों ने बहुराष्ट्रीय कम्पनी के समझौते अन्तर्गत आने की शुरुआत की, जैसे पेशी कम्पनी।

- A. पंजाब
- B. केरल
- C. उत्तर प्रदेश
- D. कर्नाटक
- E. दिल्ली

नीचे दिए गए विकल्पों में से सही उत्तर का चयन कीजिए:

- 1. केवल A और B
- 2. केवल E और D
- 3. केवल B और C
- 4. केवल A और D

Options :

- 485584156217. 1
- 485584156218. 2
- 485584156219. 3
- 485584156220. 4

Question Number : 1146 Question Id : 48558439056 Question Type : MCQ Option Shuffling : No Is Question Mandatory : No Calculator : None Response Time : N.A Think Time : N.A Minimum Instruction Time : 0

Correct Marks : 5 Wrong Marks : 1

Question Key Details :

Key	Value
Comprehension	MCQ

Farmer suicides are an outcome of

1. Less cost on production
2. Stable market
3. Expensive inputs in agriculture
4. Increased productivity

Options :

485584156221. 1
485584156222. 2
485584156223. 3
485584156224. 4

Question Number : 1146 Question Id : 48558439056 Question Type : MCQ Option Shuffling : No Is Question Mandatory : No Calculator : None Response Time : N.A Think Time : N.A Minimum Instruction Time : 0 Correct Marks : 5 Wrong Marks : 1

Question Key Details :

Key	Value
Comprehension	MCQ

किसानों द्वारा आत्महत्या निम्न में से किसका परिणाम है-

1. उत्पादन की कम लागत
2. बाजार का स्थायित्व
3. कृषि में आमद का महंगा होना
4. उत्पादकता में वृद्धि

Options :

485584156221. 1
485584156222. 2
485584156223. 3
485584156224. 4

Question Number : 1147 Question Id : 48558439057 Question Type : MCQ Option Shuffling : No Is Question Mandatory : No Calculator : None Response Time : N.A Think Time : N.A Minimum Instruction Time : 0 Correct Marks : 5 Wrong Marks : 1

Question Key Details :

Key	Value
Comprehension	MCQ

Out of the following who is likely to get indulged in Bidi making

- A. Children only
- B. Male adult and women
- C. Old aged people and men
- D. Women only

Choose the *correct answer* from the options given below:

- 1. A & D Only
- 2. D & C Only
- 3. B & C Only
- 4. B & A Only

Options :

- 485584156225. 1
- 485584156226. 2
- 485584156227. 3
- 485584156228. 4

Question Number : 1147 Question Id : 48558439057 Question Type : MCQ Option Shuffling : No Is Question Mandatory : No Calculator : None Response Time : N.A Think Time : N.A Minimum Instruction Time : 0

Correct Marks : 5 Wrong Marks : 1

Question Key Details :

Key	Value
Comprehension	MCQ

निम्न में से कौन अधिकतर बीड़ी बनाने के काम में शामिल होते हैं?

- A. केवल बच्चे
- B. व्यस्क पुरुष और स्त्रियाँ
- C. बुजुर्ग लोग और पुरुष
- D. केवल स्त्रियाँ

नीचे दिए गए विकल्पों में से सही उत्तर का चयन कीजिए-

- 1. केवल A और D
- 2. केवल D और C
- 3. केवल B और C
- 4. केवल B और A

Options :

- 485584156225. 1
- 485584156226. 2
- 485584156227. 3
- 485584156228. 4

Question Number : 1148 Question Id : 48558439058 Question Type : MCQ Option Shuffling : No Is Question Mandatory : No Calculator : None Response Time : N.A Think Time : N.A Minimum Instruction Time : 0

Correct Marks : 5 Wrong Marks : 1

Question Key Details :

Key	Value
Comprehension	MCQ

Which one of the following is not a pressure group?

1. Durbar Kur
2. ASSOCHAM
3. MKS
4. CITU

Options :

485584156229. 1
485584156230. 2
485584156231. 3
485584156232. 4

Question Number : 1148 Question Id : 48558439058 Question Type : MCQ Option Shuffling : No Is Question Mandatory : No Calculator : None Response Time : N.A Think Time : N.A Minimum Instruction Time : 0

Correct Marks : 5 Wrong Marks : 1

Question Key Details :

Key	Value
Comprehension	MCQ

इनमें से कौन दबाव समूह नहीं है?

1. दरबार कुर
2. एसोचैम (ASSOCHAM)
3. एम. के. एस.
4. सीटू (CITU)

Options :

485584156229. 1
485584156230. 2
485584156231. 3
485584156232. 4

Question Number : 1149 Question Id : 48558439059 Question Type : MCQ Option Shuffling : No Is Question Mandatory : No Calculator : None Response Time : N.A Think Time : N.A Minimum Instruction Time : 0

Correct Marks : 5 Wrong Marks : 1

Question Key Details :

Key	Value
Comprehension	MCQ

Impact of the abolition of Zamindari system led to which of the following?

1. Increasing economic and political power of Zamindars
2. Wiped out landlordism
3. End of share cropping system
4. Removal of layer of intermediaries between cultivators and the state

Options :

485584156233. 1
485584156234. 2
485584156235. 3
485584156236. 4

Question Number : 1149 Question Id : 48558439059 Question Type : MCQ Option Shuffling : No Is Question Mandatory : No Calculator : None
Response Time : N.A Think Time : N.A Minimum Instruction Time : 0

Correct Marks : 5 Wrong Marks : 1

Question Key Details :

Key	Value
Comprehension	MCQ

जमींदारी प्रथा के उन्मूलन का सबसे अधिक प्रभाव निम्न में से किस पर पड़ा

1. जमींदारों की आर्थिक एवं राजनैतिक शक्तियों में वृद्धि
2. भूसामन्तवाद का अन्त
3. सांझा कृषि व्यवस्था का अन्त
4. सरकार एवं कृषकों के बीच के द्विचौलियों का उन्मूलन

Options :

485584156233. 1

485584156234. 2

485584156235. 3

485584156236. 4

Question Number : 1150 Question Id : 48558439060 Question Type : MCQ Option Shuffling : No Is Question Mandatory : No Calculator : None
Response Time : N.A Think Time : N.A Minimum Instruction Time : 0

Correct Marks : 5 Wrong Marks : 1

Question Key Details :

Key	Value
Comprehension	MCQ

The social welfare responsibilities of Panchayats include which of the following?

- A. Recording statistics of birth and death
- B. Making amendments to Constitution
- C. Control of cattle compounds
- D. Framing rules for the state
- E. Propagate family planning

Choose the *correct answer* from the options given below:

1. B, A, E Only
2. A, C, E Only
3. B, C, D Only
4. C, D, E Only

Options :

485584156237. 1

485584156238. 2

485584156239. 3

485584156240. 4

Question Number : 1150 Question Id : 48558439060 Question Type : MCQ Option Shuffling : No Is Question Mandatory : No Calculator : None
Response Time : N.A Think Time : N.A Minimum Instruction Time : 0

Correct Marks : 5 Wrong Marks : 1

Question Key Details :

Key	Value
Comprehension	MCQ

पंचायत के सामाजिक कल्याण उत्तरदायित्व में निम्नलिखित में क्या शामिल है?

- A. जन्म एवं मृत्यु का लेखा रखना
- B. संविधान में बदलाव करना
- C. मवेशियों का नियन्त्रण
- D. राज्य के नियमों का बनाना
- E. परिवार नियोजन का प्रसार

नीचे दिए गए विकल्पों में से सही उत्तर का चयन कीजिए:

- 1. केवल B, A, E
- 2. केवल A, C, E
- 3. केवल B, C, D
- 4. केवल C, D, E

Options :

- 485584156237. 1
- 485584156238. 2
- 485584156239. 3
- 485584156240. 4

Question Number : 1151 Question Id : 48558439061 Question Type : MCQ Option Shuffling : No Is Question Mandatory : No Calculator : None Response Time : N.A Think Time : N.A Minimum Instruction Time : 0

Correct Marks : 5 Wrong Marks : 1

Question Key Details :

Key	Value
Comprehension	MCQ

"Scientific Management" system of increasing industrial output has been given by:

- 1. Karl Marx
- 2. Fredrick Winslow Taylor
- 3. Henry Ford
- 4. Amitai Etzioni

Options :

- 485584156241. 1
- 485584156242. 2
- 485584156243. 3
- 485584156244. 4

Question Number : 1151 Question Id : 48558439061 Question Type : MCQ Option Shuffling : No Is Question Mandatory : No Calculator : None Response Time : N.A Think Time : N.A Minimum Instruction Time : 0

Correct Marks : 5 Wrong Marks : 1

Question Key Details :

Key	Value
Comprehension	MCQ

'वैज्ञानिक प्रबंध' व्यवस्था जो औद्योगिक उत्पाद को बढ़ाती है यह किसकी देन है

1. कार्ल मार्क्स
2. एफ. डब्लू. टेलर
3. हेनरी फोर्ड
4. अमीताई एल्लियोनी

Options :

485584156241. 1
485584156242. 2
485584156243. 3
485584156244. 4

Question Number : 1152 Question Id : 48558439062 Question Type : MCQ Option Shuffling : No Is Question Mandatory : No Calculator : None Response Time : N.A Think Time : N.A Minimum Instruction Time : 0

Correct Marks : 5 Wrong Marks : 1

Question Key Details :

Key	Value
Comprehension	MCQ

Social movements that was directed against the feudal conditions of the princely state of Hyderabad and was led by the CPI.

1. Tebhaga
2. Champaran
3. Bardoli Satyagraha
4. Telangana

Options :

485584156245. 1
485584156246. 2
485584156247. 3
485584156248. 4

Question Number : 1152 Question Id : 48558439062 Question Type : MCQ Option Shuffling : No Is Question Mandatory : No Calculator : None Response Time : N.A Think Time : N.A Minimum Instruction Time : 0

Correct Marks : 5 Wrong Marks : 1

Question Key Details :

Key	Value
Comprehension	MCQ

हैदराबाद रियासत की सामंती व्यवस्था के विरुद्ध सामाजिक आन्दोलन जो CPI द्वारा किया गया

1. तिभागा
2. चम्पारन
3. बारदोली सत्याग्रह
4. तेलंगाना

Options :

485584156245. 1
485584156246. 2
485584156247. 3

485584156248. 4

Question Number : 1153 Question Id : 48558439063 Question Type : MCQ Option Shuffling : No Is Question Mandatory : No Calculator : None
Response Time : N.A Think Time : N.A Minimum Instruction Time : 0
Correct Marks : 5 Wrong Marks : 1
Question Key Details :

Key	Value
Comprehension	MCQ

Arrange the following in ascending order of their foundation

- A. The Madras Mail
- B. The Pioneer
- C. The Statesman
- D. The Times of India

Choose the *correct answer* from the options given below:

- 1. B, C, D, A
- 2. D, B, A, C
- 3. A, B, C, D
- 4. C, B, A, D

Options :

- 485584156249. 1
- 485584156250. 2
- 485584156251. 3
- 485584156252. 4

Question Number : 1153 Question Id : 48558439063 Question Type : MCQ Option Shuffling : No Is Question Mandatory : No Calculator : None
Response Time : N.A Think Time : N.A Minimum Instruction Time : 0

Correct Marks : 5 Wrong Marks : 1

Question Key Details :

Key	Value
Comprehension	MCQ

निम्नलिखित को इनके निर्माण के अनुसार आरोही क्रम में व्यवस्थित करें।

- A. मद्रास मेल
- B. पायनियर
- C. स्टेट्समैन
- D. टाइम्स ऑफ इंडिया

नीचे दिए गए विकल्पों में से सही उत्तर का चयन कीजिए.

- 1. B, C, D, A
- 2. D, B, A, C
- 3. A, B, C, D
- 4. C, B, A, D

Options :

- 485584156249. 1
- 485584156250. 2
- 485584156251. 3
- 485584156252. 4

Question Number : 1154 Question Id : 48558439064 Question Type : MCQ Option Shuffling : No Is Question Mandatory : No Calculator : None
Response Time : N.A Think Time : N.A Minimum Instruction Time : 0
Correct Marks : 5 Wrong Marks : 1

Question Key Details :

Key	Value
Comprehension	MCQ

Disinvestment is

1. Privatisation of public sector
2. Nationalisation of private sector
3. Increase of government share in private sector
4. Buying of private sector by government

Options :

- 485584156253. 1
- 485584156254. 2
- 485584156255. 3
- 485584156256. 4

Question Number : 1154 Question Id : 48558439064 Question Type : MCQ Option Shuffling : No Is Question Mandatory : No Calculator : None
Response Time : N.A Think Time : N.A Minimum Instruction Time : 0
Correct Marks : 5 Wrong Marks : 1

Question Key Details :

Key	Value
Comprehension	MCQ

विनिवेश क्या है

1. सार्वजनिक क्षेत्र का निजीकरण
2. निजी क्षेत्र का राष्ट्रीयकरण
3. निजीक्षेत्र में सरकारी भागीदारी में वृद्धि
4. निजी क्षेत्र सरकारी क्षेत्र को खरीदना

Options :

- 485584156253. 1
- 485584156254. 2
- 485584156255. 3
- 485584156256. 4

Question Number : 1155 Question Id : 48558439065 Question Type : MCQ Option Shuffling : No Is Question Mandatory : No Calculator : None
Response Time : N.A Think Time : N.A Minimum Instruction Time : 0
Correct Marks : 5 Wrong Marks : 1

Question Key Details :

Key	Value
Comprehension	MCQ

Mass communication is different from other means of communication because

- A. it requires a informal structural organisation
- B. it requires a formal structural organisation
- C. it requires a large body of employee
- D. it requires a small body of employee
- E. it requires small scale capital

Choose the *correct answer* from the options given below:

- 1. B & C Only
- 2. A & C Only
- 3. B & E Only
- 4. B & D Only

Options :

- 485584156257. 1
- 485584156258. 2
- 485584156259. 3
- 485584156260. 4

Question Number : 1155 Question Id : 48558439065 Question Type : MCQ Option Shuffling : No Is Question Mandatory : No Calculator : None Response Time : N.A Think Time : N.A Minimum Instruction Time : 0 Correct Marks : 5 Wrong Marks : 1

Question Key Details :

Key	Value
Comprehension	MCQ

जन संचार अन्य संचार से अलग है क्योंकि

- A. इसके लिए एक अनौपचारिक संरचनात्मक संगठन की आवश्यकता है
- B. इसके लिए एक औपचारिक संरचनात्मक संगठन की आवश्यकता है
- C. इसके लिए कर्मचारियों के एक बड़े समूह की आवश्यकता है
- D. इसके लिए कर्मचारियों के एक छोटे समूह की आवश्यकता है
- E. जहाँ निम्न मात्रा में पूंजी की आवश्यकता होती है

नीचे दिए गए विकल्पों में से सही उत्तर का चयन कीजिए:

- 1. केवल B और C
- 2. केवल A और C
- 3. केवल B और E
- 4. केवल B और D

Options :

- 485584156257. 1
- 485584156258. 2
- 485584156259. 3
- 485584156260. 4

Question Number : 1156 Question Id : 48558439066 Question Type : MCQ Option Shuffling : No Is Question Mandatory : No Calculator : None Response Time : N.A Think Time : N.A Minimum Instruction Time : 0 Correct Marks : 5 Wrong Marks : 1

Question Key Details :

Key	Value
Comprehension	MCQ

The Social Movement led by Birsa Munda is known as:

1. Tebhaga Movement
2. Santhal Hool
3. Ulgulan
4. Swadhaya Parivar Movement

Options :

485584156261. 1
485584156262. 2
485584156263. 3
485584156264. 4

Question Number : 1156 Question Id : 48558439066 Question Type : MCQ Option Shuffling : No Is Question Mandatory : No Calculator : None Response Time : N.A Think Time : N.A Minimum Instruction Time : 0 Correct Marks : 5 Wrong Marks : 1

Question Key Details :

Key	Value
Comprehension	MCQ

बिरसा मुंडा के नेतृत्व में सामाजिक आन्दोलन

1. तेभागा आन्दोलन
2. संथाल हूल
3. उलगुलान
4. स्वाध्या परिवार आन्दोलन

Options :

485584156261. 1
485584156262. 2
485584156263. 3
485584156264. 4

Question Number : 1157 Question Id : 48558439067 Question Type : MCQ Option Shuffling : No Is Question Mandatory : No Calculator : None Response Time : N.A Think Time : N.A Minimum Instruction Time : 0 Correct Marks : 5 Wrong Marks : 1

Question Key Details :

Key	Value
Comprehension	MCQ

Read the statement given below and choose the options with the correct sequence:

- A. AITUC was formed in Bombay
- B. INTUC formed
- C. Textile Labour Association (TLA) formed
- D. 4th Factories Act passed

Choose the *correct answer* from the options given below:

- 1. A, B, C, D
- 2. A, C, D, B
- 3. B, C, D, A
- 4. D, C, B, A

Options :

- 485584156265. 1
- 485584156266. 2
- 485584156267. 3
- 485584156268. 4

Question Number : 1157 Question Id : 48558439067 Question Type : MCQ Option Shuffling : No Is Question Mandatory : No Calculator : None Response Time : N.A Think Time : N.A Minimum Instruction Time : 0

Correct Marks : 5 Wrong Marks : 1

Question Key Details :

Key	Value
Comprehension	MCQ

निचे दिए गए कतनों को ध्यान से पढ़े एवं सही क्रम के विकल्प को चुनें

- A. ए. आई. टी. यू. सी. बम्बई में बनी
- B. आई. एन. टी. यू. सी. का निर्माण
- C. टैक्सटाईल लेबर एसोसिएशन का गठन
- D. चौथा कारखाना अधिनियम निर्माण

नीचे दिए गए विकल्पों में से सही उत्तर का चयन कीजिए:

- 1. A, B, C, D
- 2. A, C, D, B
- 3. B, C, D, A
- 4. D, C, B, A

Options :

- 485584156265. 1
- 485584156266. 2
- 485584156267. 3
- 485584156268. 4

Question Number : 1158 Question Id : 48558439068 Question Type : MCQ Option Shuffling : No Is Question Mandatory : No Calculator : None Response Time : N.A Think Time : N.A Minimum Instruction Time : 0

Correct Marks : 5 Wrong Marks : 1

Question Key Details :

Key	Value
Comprehension	MCQ

The workforce involved in design and development, marketing, projects are known as

1. Global economy
2. Electronic economy
3. Liberalization
4. Thin Air Economy/ Knowledge Economy

Options :

485584156269. 1
485584156270. 2
485584156271. 3
485584156272. 4

Question Number : 1158 Question Id : 48558439068 Question Type : MCQ Option Shuffling : No Is Question Mandatory : No Calculator : None Response Time : N.A Think Time : N.A Minimum Instruction Time : 0 Correct Marks : 5 Wrong Marks : 1

Question Key Details :

Key	Value
Comprehension	MCQ

जिस कार्यबल का प्रयोग रूपरेखा और विकास, निपणन, परियोजना के रूप में जाना जाता है:

1. वैश्विक अर्थव्यवस्था
2. इलेक्ट्रॉनिक अर्थव्यवस्था
3. उदारीकरण
4. थिन एयर/ ज्ञान अर्थव्यवस्था

Options :

485584156269. 1
485584156270. 2
485584156271. 3
485584156272. 4

Question Number : 1159 Question Id : 48558439069 Question Type : MCQ Option Shuffling : No Is Question Mandatory : No Calculator : None Response Time : N.A Think Time : N.A Minimum Instruction Time : 0 Correct Marks : 5 Wrong Marks : 1

Question Key Details :

Key	Value
Comprehension	MCQ

In his book, 'Weapons of the Weak', James Scott analysed the lives of peasants & labourers in Malaysia. Protest against injustice took the form of small acts, such as being deliberately slow:

This is an example of:

1. Revolutionary Movement
2. Collective Action
3. Everyday acts of resistance
4. Counter Movement

Options :

485584156273. 1
485584156274. 2

485584156275.3
485584156276.4

Question Number : 1159 Question Id : 48558439069 Question Type : MCQ Option Shuffling : No Is Question Mandatory : No Calculator : None
Response Time : N.A Think Time : N.A Minimum Instruction Time : 0
Correct Marks : 5 Wrong Marks : 1
Question Key Details :

Key	Value
Comprehension	MCQ

जेम्स स्कॉट ने अपनी पुस्तक 'वैपन ऑफ द वीक' मलेशिया के काश्ताकार वन मजदूरों के जीवन का विश्लेषण किया।
अन्याय के विरुद्ध विरोध का रूप छोटे छोटे कामों में दिखने लगा। इसका एक उदाहरण है।

1. क्रांतिकारी आन्दोलन
2. सामुहिक कार्यवाही
3. प्रतिदिन प्रतिरोध गतिविधि
4. प्रतिरोधी आन्दोलन

Options :

485584156273.1
485584156274.2
485584156275.3
485584156276.4

Question Number : 1160 Question Id : 48558439070 Question Type : MCQ Option Shuffling : No Is Question Mandatory : No Calculator : None
Response Time : N.A Think Time : N.A Minimum Instruction Time : 0

Correct Marks : 5 Wrong Marks : 1

Question Key Details :

Key	Value
Comprehension	MCQ

What is the central concern of new social movement?

1. quality of life issues like having a clean environment
2. changing distribution of power among people
3. role of political parties
4. addressing issues of class-based exploitation

Options :

485584156277.1
485584156278.2
485584156279.3
485584156280.4

Question Number : 1160 Question Id : 48558439070 Question Type : MCQ Option Shuffling : No Is Question Mandatory : No Calculator : None
Response Time : N.A Think Time : N.A Minimum Instruction Time : 0

Correct Marks : 5 Wrong Marks : 1

Question Key Details :

Key	Value
Comprehension	MCQ

नए सामाजिक आन्दोलन की केन्द्रीय चिन्तन का विषय क्या है?

1. जीवन में गुणवत्ता का मामला जैसे स्वच्छ वातावरण का होना
2. लोगों में शक्ति के बटवारे में बदलाव
3. राजनीतिक दल की भूमिका
4. वर्ग आधारित शोषण के मुद्दे

Options :

485584156277. 1

485584156278. 2

485584156279. 3

485584156280. 4

Sub-Section Number :

2

Sub-Section Id :

4855842965

Question Shuffling Allowed :

No

Is Section Default? :

null

Question Number : 1161 Question Id : 48558439071 Question Type : MCQ Option Shuffling : No Is Question Mandatory : No Calculator : None

Response Time : N.A Think Time : N.A Minimum Instruction Time : 0

Correct Marks : 5 Wrong Marks : 1

Question Key Details :

Key	Value
Comprehension	Comp1

Read the passage and answer the following questions given:

The Meghalaya Succession Act (passed by an all-male Meghalaya legislative assembly) received the President's assent in 1986. The Succession Act applies specifically to the Khasi and Jaintia tribes of Meghalaya and confers on 'any Khasi and Jaintia of sound mind not being a minor, the right to dispose of his self-acquired property by will'. The practice of making out a will does not exist in Khasi custom. Khasi custom prescribes the devolution of ancestral property in the female line.

There is a feeling, specially among the educated Khasi, that their rules of kinship and inheritance are biased in favour of women and are too restrictive. The Succession Act is therefore seen as an attempt at removing such restrictions and at correcting the perceived female bias in the Khasi tradition. To assess whether the popular perception of female bias in the Khasi tradition is indeed valid, it is necessary to view the Khasi matrilineal system in the context of the prevalent gender relations and definitions of gender roles.

Several scholars have highlighted the inherent contradictions in matrilineal systems. One such contradiction arises from the separation of the line of descent and inheritance on the one hand and the structure of authority and control on the other. The former, which links the mother to the daughter, comes in conflict with the latter, which links the mother's brother to the sister's son. (In other words, a woman inherits property from her mother and passes it on to her daughter, while a man controls his sister's property and passes on control to his sister's son. Thus, inheritance passes from mother to daughter whereas control passes from (maternal) uncle to nephew.

Khasi matrilineality generates intense role conflict for men. They are torn between their responsibilities to their natal house on the one hand, and to their wife and children on the other. In a way, the strain generated by such role conflict affects Khasi women more intensely. A woman can never be fully assured that her husband does not find his sister's house a more congenial place than her own. Similarly a sister will be apprehensive about her brother's commitment to her welfare because the wife with whom he lives can always pull him away from his responsibilities to his natal house.

The women are more adversely affected than men by the role conflict generated in the Khasi matrilineal system not only because men wield power and women are deprived of it, but also because the system is more lenient to men when there is a transgression of rules. Women possess only token authority in Khasi society; it is men who are the defacto power holders. The system is indeed weighted in favour of male matri-kin rather than male patri-kin. (In other words, despite matrilineality, men are the power holders in Khasi society; the only difference is that a man's relatives on his mother's side matter more than his relatives on his father's side.)

In which year did Meghalaya Succession Act received the President's assent?

1. 1896
2. 1867
3. 1966
4. 1986

Options :

- 485584156281. 1
- 485584156282. 2
- 485584156283. 3
- 485584156284. 4

Question Number : 1161 Question Id : 48558439071 Question Type : MCQ Option Shuffling : No Is Question Mandatory : No Calculator : None Response Time : N.A Think Time : N.A Minimum Instruction Time : 0

Correct Marks : 5 Wrong Marks : 1

Question Key Details :

Key	Value
Comprehension	Compl

मेघालय उत्तराधिकार अधिनियम (मेघालय विधानसभा, जिसके सभी सदस्य पुरुष ही थे, द्वारा पारित) को 1986 में राष्ट्रपति से स्वीकृति मिली। अधिनियम विशेष तौर पर खासी और जेन्तिया जनजाति पर लागू होता है और उस खासी या जेन्तिया व्यक्ति पर मान्य है जो बुद्धि से सबल है और अल्पआयु नहीं है; उस व्यक्ति को अपनी खुद की बानाई हुए जायदाद की वसीयत बनाने का अधिकार है।

वसीयत बनाने की प्रथा, खासियों में नहीं है। खासी प्रथा मातृ वंशज के आधार पर जायदाद को अमुक स्त्री को सुपुर्द किए जाने की बात करती है।

खासियों में विशेषतः पढ़े-लिखे खासियों को ऐसा प्रतीत होता है कि उनके संबंधों और उत्तराधिकार के नियम, स्त्रियों के पक्ष में है और अपने में सीमित भी है। अतः यह अधिनियम खासी परंपरा में व्याप्त महिलाओं के पक्ष में किए गए पक्षपात को ठीक कर इस सीमितता को समाप्त करने का एक प्रयास है। यह परखने के लिए कि क्या ये प्रचलित बोधता-जो खासी परंपरा में स्त्रियों के प्रति पक्षपात की बात करती है, सही है कि नहीं, यह जरूरी है कि खासी मातृवंशीय व्यवस्था को व्यावहारिक लिंग-संबंधों और लिंग भूमिकाओं की परिभाषाओं के संदर्भ में देखा जाए।

कई विशेषज्ञों ने मातृवंशीय व्यवस्थाओं में अंतर्निहित विरोधाभासों पर ध्यान केंद्रित किया है। एक ऐसा विरोधाभास वंशानुक्रम की रखा और उत्तराधिकार एवं नियंत्रण और सत्ता की संरचना के अलगाव से उत्पन्न होता है। पहला संदर्भ जो माँ और बेटी को जोड़ता है वह दूसरे संदर्भ के आ जाने से प्रतिद्वंद्विता की उत्पत्ति होती है जो माँ के भाई को बहन के बेटे से जोड़ता है [दूसरे शब्दों में, एक स्त्री अपने माँ से जायदाद उत्तराधिकार में पाती है और आगे अपनी बेटी को देती है, जबकी एक पुरुष अपनी बहन की जायदाद पर नियंत्रण रखता है, और वो नियंत्रण अपनी बहन के बेटे को देता है। इस तरह संपत्ति का कानूनी उत्तराधिकार तो माँ से बेटी को जाता है पर व्यवहारिक रूप में यह अधिकार मामा से भांजे को जाता है]।

खासी मातृवंश पुरुषों के लिए गहन भूमिका द्वंद्व की स्थिति उत्पन्न करता है। वो अपनी पत्नी और बच्चों एवं जन्म के घर की ज़िम्मेदारियों के बीच बँट जाते हैं। एक तरह से भूमिका-द्वंद्व द्वारा उत्पन्न इस तनाव का असर खासी स्त्रियों पर बहुत ज्यादा पड़ता है। एक स्त्री कभी सुनिश्चित नहीं कर सकती कि उसके पति को उसकी बहन का घर ज्यादा अच्छा लगता है या अपना स्वयं का। उसी तरह बहन सोचेगी कि शादीशुदा भाई अपनी बहन के प्रति ज़िम्मेदारियों को भूल जाएगा।

खासी मातृवंशीय व्यवस्था में उत्पन्न भूमिका-द्वंद्व से पुरुषों की बजाय अंततः स्त्रियाँ ज्यादा गहन रूप से प्रभावित होती हैं, सिर्फ इसलिए नहीं क्योंकि पुरुष अधिकारों के स्वामी हैं और स्त्रियाँ इससे वंचित हैं पर इसलिए भी क्योंकि समाज पुरुषों को नियम तोड़ने पर उन्हें कम सज़ा देता है या नज़र अंदाज़ कर देता है। खासी समाज में स्त्रियों के पास सिर्फ नाम का अधिकार होता है- असली अधिकार पुरुषों के हाथ में होता है। हाँ, इतना जरूर है कि यह व्यवस्था पुरुष के मातृ-नातेदार की तरफ झुकी हुई है न कि पितृ-नातेदार की तरफ। (दूसरे शब्दों में मातृवंश के बावजूद, पुरुष ही खासी समाज में शक्ति के स्वामी हैं, सिर्फ एक अंतर है कि एक पुरुष के लिए उसकी माँ की तरफ के रिश्तेदारों का उसके पिता की तरफ के रिश्तेदारों से ज्यादा महत्त्व होता है)।

किस वर्ष मेघालय उत्तराधिकार अधिनियम राष्ट्रपति को प्राप्त व अनुमोदित हुआ?

1. 1896
2. 1867
3. 1966
4. 1986

Options :

485584156281. 1
485584156282. 2
485584156283. 3
485584156284. 4

Question Number : 1162 Question Id : 48558439072 Question Type : MCQ Option Shuffling : No Is Question Mandatory : No Calculator : None Response Time : N.A Think Time : N.A Minimum Instruction Time : 0

Correct Marks : 5 Wrong Marks : 1

Question Key Details :

Key	Value
Comprehension	Comp1

Read the passage and answer the following questions given:

The Meghalaya Succession Act (passed by an all-male Meghalaya legislative assembly) received the President's assent in 1986. The Succession Act applies specifically to the Khasi and Jaintia tribes of Meghalaya and confers on 'any Khasi and Jaintia of sound mind not being a minor, the right to dispose of his self-acquired property by will'. The practice of making out a will does not exist in Khasi custom. Khasi custom prescribes the devolution of ancestral property in the female line.

There is a feeling, specially among the educated Khasi, that their rules of kinship and inheritance are biased in favour of women and are too restrictive. The Succession Act is therefore seen as an attempt at removing such restrictions and at correcting the perceived female bias in the Khasi tradition. To assess whether the popular perception of female bias in the Khasi tradition is indeed valid, it is necessary to view the Khasi matrilineal system in the context of the prevalent gender relations and definitions of gender roles.

Several scholars have highlighted the inherent contradictions in matrilineal systems. One such contradiction arises from the separation of the line of descent and inheritance on the one hand and the structure of authority and control on the other. The former, which links the mother to the daughter, comes in conflict with the latter, which links the mother's brother to the sister's son. (In other words, a woman inherits property from her mother and passes it on to her daughter, while a man controls his sister's property and passes on control to his sister's son. Thus, inheritance passes from mother to daughter whereas control passes from (maternal) uncle to nephew.

Khasi matrilineality generates intense role conflict for men. They are torn between their responsibilities to their natal house on the one hand, and to their wife and children on the other. In a way, the strain generated by such role conflict affects Khasi women more intensely. A woman can never be fully assured that her husband does not find his sister's house a more congenial place than her own. Similarly a sister will be apprehensive about her brother's commitment to her welfare because the wife with whom he lives can always pull him away from his responsibilities to his natal house.

The women are more adversely affected than men by the role conflict generated in the Khasi matrilineal system not only because men wield power and women are deprived of it, but also because the system is more lenient to men when there is a transgression of rules. Women possess only token authority in Khasi society; it is men who are the defacto power holders. The system is indeed weighted in favour of male matri-kin rather than male patri-kin. (In other words, despite matrilineality, men are the power holders in Khasi society; the only difference is that a man's relatives on his mother's side matter more than his relatives on his father's side.)

Which of the following custom is practiced in Khasi society?

1. Making out a will
2. Brother controlling sister's property
3. Property passing to maternal uncle
4. Property passing to nephew

Options :

- 485584156285. 1
- 485584156286. 2
- 485584156287. 3
- 485584156288. 4

Question Number : 1162 Question Id : 48558439072 Question Type : MCQ Option Shuffling : No Is Question Mandatory : No Calculator : None Response Time : N.A Think Time : N.A Minimum Instruction Time : 0 Correct Marks : 5 Wrong Marks : 1 Question Key Details :

Key	Value
Comprehension	Comp1

मेघालय उत्तराधिकार अधिनियम (मेघालय विधानसभा, जिसके सभी सदस्य पुरुष ही थे, द्वारा पारित) को 1986 में राष्ट्रपति से स्वीकृति मिली। अधिनियम विशेष तौर पर खासी और जेन्तिया जनजाति पर लागू होता है और उस खासी या जेन्तिया व्यक्ति पर मान्य है जो बुद्धि से सबल है और अल्पआयु नहीं है; उस व्यक्ति को अपनी खुद की बानाई हुए जायदाद की वसीयत बनाने का अधिकार है।

वसीयत बनाने की प्रथा, खासियों में नहीं है। खासी प्रथा मातृ वंशज के आधार पर जायदाद को अमुक स्त्री को सुपुर्द किए जाने की बात करती है।

खासियों में विशेषतः पढ़े-लिखे खासियों को ऐसा प्रतीत होता है कि उनके संबंधों और उत्तराधिकार के नियम, स्त्रियों के पक्ष में है और अपने में सीमित भी है। अतः यह अधिनियम खासी परंपरा में व्याप्त महिलाओं के पक्ष में किए गए पक्षपात को ठीक कर इस सीमितता को समाप्त करने का एक प्रयास है। यह परखने के लिए कि क्या ये प्रचलित बोधता-जो खासी परंपरा में स्त्रियों के प्रति पक्षपात की बात करती है, सही है कि नहीं, यह जरूरी है कि खासी मातृवंशीय व्यवस्था को व्यावहारिक लिंग-संबंधों और लिंग भूमिकाओं की परिभाषाओं के संदर्भ में देखा जाए।

कई विशेषज्ञों ने मातृवंशीय व्यवस्थाओं में अंतर्निहित विरोधाभासों पर ध्यान केंद्रित किया है। एक ऐसा विरोधाभास वंशानुक्रम की रेखा और उत्तराधिकार एवं नियंत्रण और सत्ता की संरचना के अलगाव से उत्पन्न होता है। पहला संदर्भ जो माँ और बेटी को जोड़ता है वह दूसरे संदर्भ के आ जाने से प्रतिद्वंद्विता की उत्पत्ति होती है जो माँ के भाई को बहन के बेटे से जोड़ता है [दूसरे शब्दों में, एक स्त्री अपने माँ से जायदाद उत्तराधिकार में पाती है और आगे अपनी बेटी को देती है, जबकी एक पुरुष अपनी बहन की जायदाद पर नियंत्रण रखता है, और वो नियंत्रण अपनी बहन के बेटे को देता है। इस तरह संपत्ति का कानूनी उत्तराधिकार तो माँ से बेटी को जाता है पर व्यवहारिक रूप में यह अधिकार मामा से भांजे को जाता है]।

खासी मातृवंश पुरुषों के लिए गहन भूमिका द्वंद्व की स्थिति उत्पन्न करता है। वो अपनी पत्नी और बच्चों एवं जन्म के घर की ज़िम्मेदारियों के बीच बँट जाते हैं। एक तरह से भूमिका-द्वंद्व द्वारा उत्पन्न इस तनाव का असर खासी स्त्रियों पर बहुत ज्यादा पड़ता है। एक स्त्री कभी सुनिश्चित नहीं कर सकती कि उसके पति को उसकी बहन का घर ज्यादा अच्छा लगता है या अपना स्वयं का। उसी तरह बहन सोचेगी कि शादीशुदा भाई अपनी बहन के प्रति ज़िम्मेदारियों को भूल जाएगा।

खासी मातृवंशीय व्यवस्था में उत्पन्न भूमिका-द्वंद्व से पुरुषों की बजाय अंततः स्त्रियाँ ज्यादा गहन रूप से प्रभावित होती हैं, सिर्फ इसलिए नहीं क्योंकि पुरुष अधिकारों के स्वामी हैं और स्त्रियाँ इससे वंचित हैं पर इसलिए भी क्योंकि समाज पुरुषों को नियम तोड़ने पर उन्हें कम सज़ा देता है या नज़र अंदाज़ कर देता है। खासी समाज में स्त्रियों के पास सिर्फ नाम का अधिकार होता है- असली अधिकार पुरुषों के हाथ में होता है। हाँ, इतना जरूर है कि यह व्यवस्था पुरुष के मातृ-नातेदार की तरफ झुकी हुई है न कि पितृ-नातेदार की तरफ। (दूसरे शब्दों में मातृवंश के बावजूद, पुरुष ही खासी समाज में शक्ति के स्वामी हैं, सिर्फ एक अंतर है कि एक पुरुष के लिए उसकी माँ की तरफ के रिश्तेदारों का उसके पिता की तरफ के रिश्तेदारों से ज्यादा महत्त्व होता है)।

निम्न में से कौन सी प्रथा वास्तविक रूप में खासी समाज में प्रचलित थी।

1. वसीयत बनाना।
2. भाई, बहन की सम्पत्ति का नियन्त्रण रखता है।
3. सम्पत्ति मामा को दी जाती है।
4. सम्पत्ति भांजे को दी जाएगी।

Options :

485584156285. 1
485584156286. 2
485584156287. 3
485584156288. 4

Question Number : 1163 Question Id : 48558439073 Question Type : MCQ Option Shuffling : No Is Question Mandatory : No Calculator : None Response Time : N.A Think Time : N.A Minimum Instruction Time : 0

Correct Marks : 5 Wrong Marks : 1

Question Key Details :

Key	Value
Comprehension	Comp1

Read the passage and answer the following questions given:

The Meghalaya Succession Act (passed by an all-male Meghalaya legislative assembly) received the President's assent in 1986. The Succession Act applies specifically to the Khasi and Jaintia tribes of Meghalaya and confers on 'any Khasi and Jaintia of sound mind not being a minor, the right to dispose of his self-acquired property by will'. The practice of making out a will does not exist in Khasi custom. Khasi custom prescribes the devolution of ancestral property in the female line.

There is a feeling, specially among the educated Khasi, that their rules of kinship and inheritance are biased in favour of women and are too restrictive. The Succession Act is therefore seen as an attempt at removing such restrictions and at correcting the perceived female bias in the Khasi tradition. To assess whether the popular perception of female bias in the Khasi tradition is indeed valid, it is necessary to view the Khasi matrilineal system in the context of the prevalent gender relations and definitions of gender roles.

Several scholars have highlighted the inherent contradictions in matrilineal systems. One such contradiction arises from the separation of the line of descent and inheritance on the one hand and the structure of authority and control on the other. The former, which links the mother to the daughter, comes in conflict with the latter, which links the mother's brother to the sister's son. (In other words, a woman inherits property from her mother and passes it on to her daughter, while a man controls his sister's property and passes on control to his sister's son. Thus, inheritance passes from mother to daughter whereas control passes from (maternal) uncle to nephew.

Khasi matrilineality generates intense role conflict for men. They are torn between their responsibilities to their natal house on the one hand, and to their wife and children on the other. In a way, the strain generated by such role conflict affects Khasi women more intensely. A woman can never be fully assured that her husband does not find his sister's house a more congenial place than her own. Similarly a sister will be apprehensive about her brother's commitment to her welfare because the wife with whom he lives can always pull him away from his responsibilities to his natal house.

The women are more adversely affected than men by the role conflict generated in the Khasi matrilineal system not only because men wield power and women are deprived of it, but also because the system is more lenient to men when there is a transgression of rules. Women possess only token authority in Khasi society; it is men who are the de facto power holders. The system is indeed weighted in favour of male matri-kin rather than male patri-kin. (In other words, despite matrilineality, men are the power holders in Khasi society; the only difference is that a man's relatives on his mother's side matter more than his relatives on his father's side.)

Which form of family is reflected in Khasi society?

1. Patrilocal
2. Matriarchal
3. Patrilineal
4. Matrilineal

Options :

485584156289. 1
485584156290. 2
485584156291. 3
485584156292. 4

Question Number : 1163 Question Id : 48558439073 Question Type : MCQ Option Shuffling : No Is Question Mandatory : No Calculator : None Response Time : N.A Think Time : N.A Minimum Instruction Time : 0

Correct Marks : 5 Wrong Marks : 1

Question Key Details :

Key	Value
Comprehension	Comp1

मेघालय उत्तराधिकार अधिनियम (मेघालय विधानसभा, जिसके सभी सदस्य पुरुष ही थे, द्वारा पारित) को 1986 में राष्ट्रपति से स्वीकृति मिली। अधिनियम विशेष तौर पर खासी और जेन्तिया जनजाति पर लागू होता है और उस खासी या जेन्तिया व्यक्ति पर मान्य है जो बुद्धि से सबल है और अल्पआयु नहीं है; उस व्यक्ति को अपनी खुद की बानाई हुए जायदाद की वसीयत बनाने का अधिकार है।

वसीयत बनाने की प्रथा, खासियों में नहीं है। खासी प्रथा मातृ वंशज के आधार पर जायदाद को अमुक स्त्री को सुपुर्द किए जाने की बात करती है।

खासियों में विशेषतः पढ़े-लिखे खासियों को ऐसा प्रतीत होता है कि उनके संबंधों और उत्तराधिकार के नियम, स्त्रियों के पक्ष में है और अपने में सीमित भी है। अतः यह अधिनियम खासी परंपरा में व्याप्त महिलाओं के पक्ष में किए गए पक्षपात को ठीक कर इस सीमितता को समाप्त करने का एक प्रयास है। यह परखने के लिए कि क्या ये प्रचलित बोधता-जो खासी परंपरा में स्त्रियों के प्रति पक्षपात की बात करती है, सही है कि नहीं, यह जरूरी है कि खासी मातृवंशीय व्यवस्था को व्यावहारिक लिंग-संबंधों और लिंग भूमिकाओं की परिभाषाओं के संदर्भ में देखा जाए।

कई विशेषज्ञों ने मातृवंशीय व्यवस्थाओं में अंतर्निहित विरोधाभासों पर ध्यान केंद्रित किया है। एक ऐसा विरोधाभास वंशानुक्रम की रखा और उत्तराधिकार एवं नियंत्रण और सत्ता की संरचना के अलगाव से उत्पन्न होता है। पहला संदर्भ जो माँ और बेटी को जोड़ता है वह दूसरे संदर्भ के आ जाने से प्रतिद्वंद्विता की उत्पत्ति होती है जो माँ के भाई को बहन के बेटे से जोड़ता है [दूसरे शब्दों में, एक स्त्री अपने माँ से जायदाद उत्तराधिकार में पाती है और आगे अपनी बेटी को देती है, जबकी एक पुरुष अपनी बहन की जायदाद पर नियंत्रण रखता है, और वो नियंत्रण अपनी बहन के बेटे को देता है। इस तरह संपत्ति का कानूनी उत्तराधिकार तो माँ से बेटी को जाता है पर व्यावहारिक रूप में यह अधिकार मामा से भांजे को जाता है]।

खासी मातृवंश पुरुषों के लिए गहन भूमिका द्वंद्व की स्थिति उत्पन्न करता है। वो अपनी पत्नी और बच्चों एवं जन्म के घर की ज़िम्मेदारियों के बीच बँट जाते हैं। एक तरह से भूमिका-द्वंद्व द्वारा उत्पन्न इस तनाव का असर खासी स्त्रियों पर बहुत ज्यादा पड़ता है। एक स्त्री कभी सुनिश्चित नहीं कर सकती कि उसके पति को उसकी बहन का घर ज्यादा अच्छा लगता है या अपना स्वयं का। उसी तरह बहन सोचेगी कि शादीशुदा भाई अपनी बहन के प्रति ज़िम्मेदारियों को भूल जाएगा।

खासी मातृवंशीय व्यवस्था में उत्पन्न भूमिका-द्वंद्व से पुरुषों की बजाय अंततः स्त्रियाँ ज्यादा गहन रूप से प्रभावित होती हैं, सिर्फ इसलिए नहीं क्योंकि पुरुष अधिकारों के स्वामी हैं और स्त्रियाँ इससे वंचित हैं पर इसलिए भी क्योंकि समाज पुरुषों को नियम तोड़ने पर उन्हें कम सज़ा देता है या नज़र अंदाज़ कर देता है। खासी समाज में स्त्रियों के पास सिर्फ नाम का अधिकार होता है- असली अधिकार पुरुषों के हाथ में होता है। हाँ, इतना जरूर है कि यह व्यवस्था पुरुष के मातृ-नातेदार की तरफ झुकी हुई है न कि पितृ-नातेदार की तरफ। (दूसरे शब्दों में मातृवंश के बावजूद, पुरुष ही खासी समाज में शक्ति के स्वामी हैं, सिर्फ एक अंतर है कि एक पुरुष के लिए उसकी माँ की तरफ के रिश्तेदारों का उसके पिता की तरफ के रिश्तेदारों से ज्यादा महत्त्व होता है)।

परितार का कौन सा रूप खासी समाज में प्रदर्शित होता है।

1. पितृ स्थानीय
2. नातृसत्तात्मक
3. पितृ वंशीय
4. मातृवंशीय

Options :

485584156289. 1

485584156290. 2

485584156291. 3

485584156292. 4

Question Number : 1164 Question Id : 48558439074 Question Type : MCQ Option Shuffling : No Is Question Mandatory : No Calculator : None Response Time : N.A Think Time : N.A Minimum Instruction Time : 0

Correct Marks : 5 Wrong Marks : 1

Question Key Details :

Key	Value
Comprehension	Comp1

Read the passage and answer the following questions given:

The Meghalaya Succession Act (passed by an all-male Meghalaya legislative assembly) received the President's assent in 1986. The Succession Act applies specifically to the Khasi and Jaintia tribes of Meghalaya and confers on 'any Khasi and Jaintia of sound mind not being a minor, the right to dispose of his self-acquired property by will'. The practice of making out a will does not exist in Khasi custom. Khasi custom prescribes the devolution of ancestral property in the female line.

There is a feeling, specially among the educated Khasi, that their rules of kinship and inheritance are biased in favour of women and are too restrictive. The Succession Act is therefore seen as an attempt at removing such restrictions and at correcting the perceived female bias in the Khasi tradition. To assess whether the popular perception of female bias in the Khasi tradition is indeed valid, it is necessary to view the Khasi matrilineal system in the context of the prevalent gender relations and definitions of gender roles.

Several scholars have highlighted the inherent contradictions in matrilineal systems. One such contradiction arises from the separation of the line of descent and inheritance on the one hand and the structure of authority and control on the other. The former, which links the mother to the daughter, comes in conflict with the latter, which links the mother's brother to the sister's son. (In other words, a woman inherits property from her mother and passes it on to her daughter, while a man controls his sister's property and passes on control to his sister's son. Thus, inheritance passes from mother to daughter whereas control passes from (maternal) uncle to nephew.

Khasi matrilineality generates intense role conflict for men. They are torn between their responsibilities to their natal house on the one hand, and to their wife and children on the other. In a way, the strain generated by such role conflict affects Khasi women more intensely. A woman can never be fully assured that her husband does not find his sister's house a more congenial place than her own. Similarly a sister will be apprehensive about her brother's commitment to her welfare because the wife with whom he lives can always pull him away from his responsibilities to his natal house.

The women are more adversely affected than men by the role conflict generated in the Khasi matrilineal system not only because men wield power and women are deprived of it, but also because the system is more lenient to men when there is a transgression of rules. Women possess only token authority in Khasi society; it is men who are the defacto power holders. The system is indeed weighted in favour of male matri-kin rather than male patri-kin. (In other words, despite matrilineality, men are the power holders in Khasi society; the only difference is that a man's relatives on his mother's side matter more than his relatives on his father's side.)

The Meghalaya Succession Act is an attempt at one of the following.

1. Remove male bias
2. Establish gender equality
3. Remove female bias
4. Give power to men

Options :

- 485584156293. 1
- 485584156294. 2
- 485584156295. 3
- 485584156296. 4

Question Number : 1164 Question Id : 48558439074 Question Type : MCQ Option Shuffling : No Is Question Mandatory : No Calculator : None Response Time : N.A Think Time : N.A Minimum Instruction Time : 0 Correct Marks : 5 Wrong Marks : 1

Question Key Details :

Key	Value
Comprehension	Compl

मेघालय उत्तराधिकार अधिनियम (मेघालय विधानसभा, जिसके सभी सदस्य पुरुष ही थे, द्वारा पारित) को 1986 में राष्ट्रपति से स्वीकृति मिली। अधिनियम विशेष तौर पर खासी और जेन्तिया जनजाति पर लागू होता है और उस खासी या जेन्तिया व्यक्ति पर मान्य है जो बुद्धि से सबल है और अल्पआयु नहीं है; उस व्यक्ति को अपनी खुद की बानाई हुए जायदाद की वसीयत बनाने का अधिकार है।

वसीयत बनाने की प्रथा, खासियों में नहीं है। खासी प्रथा मातृ वंशज के आधार पर जायदाद को अमुक स्त्री को सुपुर्द किए जाने की बात करती है।

खासियों में विशेषतः पढ़े-लिखे खासियों को ऐसा प्रतीत होता है कि उनके संबंधों और उत्तराधिकार के नियम, स्त्रियों के पक्ष में है और अपने में सीमित भी है। अतः यह अधिनियम खासी परंपरा में व्याप्त महिलाओं के पक्ष में किए गए पक्षपात को ठीक कर इस सीमितता को समाप्त करने का एक प्रयास है। यह परखने के लिए कि क्या ये प्रचलित बोधता-जो खासी परंपरा में स्त्रियों के प्रति पक्षपात की बात करती है, सही है कि नहीं, यह जरूरी है कि खासी मातृवंशीय व्यवस्था को व्यावहारिक लिंग-संबंधों और लिंग भूमिकाओं की परिभाषाओं के संदर्भ में देखा जाए।

कई विशेषज्ञों ने मातृवंशीय व्यवस्थाओं में अंतर्निहित विरोधाभासों पर ध्यान केंद्रित किया है। एक ऐसा विरोधाभास वंशानुक्रम की रखा और उत्तराधिकार एवं नियंत्रण और सत्ता की संरचना के अलगाव से उत्पन्न होता है। पहला संदर्भ जो माँ और बेटी को जोड़ता है वह दूसरे संदर्भ के आ जाने से प्रतिद्वंद्विता की उत्पत्ति होती है जो माँ के भाई को बहन के बेटे से जोड़ता है [दूसरे शब्दों में, एक स्त्री अपने माँ से जायदाद उत्तराधिकार में पाती है और आगे अपनी बेटी को देती है, जबकी एक पुरुष अपनी बहन की जायदाद पर नियंत्रण रखता है, और वो नियंत्रण अपनी बहन के बेटे को देता है। इस तरह संपत्ति का कानूनी उत्तराधिकार तो माँ से बेटी को जाता है पर व्यावहारिक रूप में यह अधिकार मामा से भांजे को जाता है]।

खासी मातृवंश पुरुषों के लिए गहन भूमिका द्वंद्व की स्थिति उत्पन्न करता है। वो अपनी पत्नी और बच्चों एवं जन्म के घर की ज़िम्मेदारियों के बीच बँट जाते हैं। एक तरह से भूमिका-द्वंद्व द्वारा उत्पन्न इस तनाव का असर खासी स्त्रियों पर बहुत ज्यादा पड़ता है। एक स्त्री कभी सुनिश्चित नहीं कर सकती कि उसके पति को उसकी बहन का घर ज्यादा अच्छा लगता है या अपना स्वयं का। उसी तरह बहन सोचेगी कि शादीशुदा भाई अपनी बहन के प्रति ज़िम्मेदारियों को भूल जाएगा।

खासी मातृवंशीय व्यवस्था में उत्पन्न भूमिका-द्वंद्व से पुरुषों की बजाय अंततः स्त्रियाँ ज्यादा गहन रूप से प्रभावित होती हैं, सिर्फ इसलिए नहीं क्योंकि पुरुष अधिकारों के स्वामी हैं और स्त्रियाँ इससे वंचित हैं पर इसलिए भी क्योंकि समाज पुरुषों को नियम तोड़ने पर उन्हें कम सज़ा देता है या नज़र अंदाज़ कर देता है। खासी समाज में स्त्रियों के पास सिर्फ नाम का अधिकार होता है- असली अधिकार पुरुषों के हाथ में होता है। हाँ, इतना जरूर है कि यह व्यवस्था पुरुष के मातृ-नातेदार की तरफ झुकी हुई है न कि पितृ-नातेदार की तरफ। (दूसरे शब्दों में मातृवंश के बावजूद, पुरुष ही खासी समाज में शक्ति के स्वामी हैं, सिर्फ एक अंतर है कि एक पुरुष के लिए उसकी माँ की तरफ के रिश्तेदारों का उसके पिता की तरफ के रिश्तेदारों से ज्यादा महत्त्व होता है)।

मेघालय उत्तराधिकार अधिनियम निम्न में से एक प्रयास है

1. पुरुष पूर्वाग्रह को दूर करना
2. लिंग समानता की स्थापना
3. स्त्री पूर्वाग्रह को दूर करना
4. पुरुष को शक्ति देना

Options :

485584156293. 1

485584156294. 2

485584156295. 3

485584156296. 4

Question Number : 1165 Question Id : 48558439075 Question Type : MCQ Option Shuffling : No Is Question Mandatory : No Calculator : None Response Time : N.A Think Time : N.A Minimum Instruction Time : 0

Correct Marks : 5 Wrong Marks : 1

Question Key Details :

Key	Value
Comprehension	Compl

Read the passage and answer the following questions given:

The Meghalaya Succession Act (passed by an all-male Meghalaya legislative assembly) received the President's assent in 1986. The Succession Act applies specifically to the Khasi and Jaintia tribes of Meghalaya and confers on 'any Khasi and Jaintia of sound mind not being a minor, the right to dispose of his self-acquired property by will'. The practice of making out a will does not exist in Khasi custom. Khasi custom prescribes the devolution of ancestral property in the female line.

There is a feeling, specially among the educated Khasi, that their rules of kinship and inheritance are biased in favour of women and are too restrictive. The Succession Act is therefore seen as an attempt at removing such restrictions and at correcting the perceived female bias in the Khasi tradition. To assess whether the popular perception of female bias in the Khasi tradition is indeed valid, it is necessary to view the Khasi matrilineal system in the context of the prevalent gender relations and definitions of gender roles.

Several scholars have highlighted the inherent contradictions in matrilineal systems. One such contradiction arises from the separation of the line of descent and inheritance on the one hand and the structure of authority and control on the other. The former, which links the mother to the daughter, comes in conflict with the latter, which links the mother's brother to the sister's son. (In other words, a woman inherits property from her mother and passes it on to her daughter, while a man controls his sister's property and passes on control to his sister's son. Thus, inheritance passes from mother to daughter whereas control passes from (maternal) uncle to nephew.

Khasi matrilineality generates intense role conflict for men. They are torn between their responsibilities to their natal house on the one hand, and to their wife and children on the other. In a way, the strain generated by such role conflict affects Khasi women more intensely. A woman can never be fully assured that her husband does not find his sister's house a more congenial place than her own. Similarly a sister will be apprehensive about her brother's commitment to her welfare because the wife with whom he lives can always pull him away from his responsibilities to his natal house.

The women are more adversely affected than men by the role conflict generated in the Khasi matrilineal system not only because men wield power and women are deprived of it, but also because the system is more lenient to men when there is a transgression of rules. Women possess only token authority in Khasi society; it is men who are the defacto power holders. The system is indeed weighted in favour of male matri-kin rather than male patri-kin. (In other words, despite matrilineality, men are the power holders in Khasi society; the only difference is that a man's relatives on his mother's side matter more than his relatives on his father's side.)

Khasi family system generates role conflict for

1. men and women
2. men
3. women
4. children

Options :

485584156297. 1
485584156298. 2
485584156299. 3
485584156300. 4

Question Number : 1165 Question Id : 48558439075 Question Type : MCQ Option Shuffling : No Is Question Mandatory : No Calculator : None Response Time : N.A Think Time : N.A Minimum Instruction Time : 0

Correct Marks : 5 Wrong Marks : 1

Question Key Details :

Key	Value
Comprehension	Comp1

मेघालय उत्तराधिकार अधिनियम (मेघालय विधानसभा, जिसके सभी सदस्य पुरुष ही थे, द्वारा पारित) को 1986 में राष्ट्रपति से स्वीकृति मिली। अधिनियम विशेष तौर पर खासी और जेन्तिया जनजाति पर लागू होता है और उस खासी या जेन्तिया व्यक्ति पर मान्य है जो बुद्धि से सबल है और अल्पआयु नहीं है; उस व्यक्ति को अपनी खुद की बानाई हुए जायदाद की वसीयत बनाने का अधिकार है।

वसीयत बनाने की प्रथा, खासियों में नहीं है। खासी प्रथा मातृ वंशज के आधार पर जायदाद को अमुक स्त्री को सुपुर्द किए जाने की बात करती है।

खासियों में विशेषतः पढ़े-लिखे खासियों को ऐसा प्रतीत होता है कि उनके संबंधों और उत्तराधिकार के नियम, स्त्रियों के पक्ष में है और अपने में सीमित भी है। अतः यह अधिनियम खासी परंपरा में व्याप्त महिलाओं के पक्ष में किए गए पक्षपात को ठीक कर इस सीमितता को समाप्त करने का एक प्रयास है। यह परखने के लिए कि क्या ये प्रचलित बोधता-जो खासी परंपरा में स्त्रियों के प्रति पक्षपात की बात करती है, सही है कि नहीं, यह जरूरी है कि खासी मातृवंशीय व्यवस्था को व्यावहारिक लिंग-संबंधों और लिंग भूमिकाओं की परिभाषाओं के संदर्भ में देखा जाए।

कई विशेषज्ञों ने मातृवंशीय व्यवस्थाओं में अंतर्निहित विरोधाभासों पर ध्यान केंद्रित किया है। एक ऐसा विरोधाभास वंशानुक्रम की रखा और उत्तराधिकार एवं नियंत्रण और सत्ता की संरचना के अलगाव से उत्पन्न होता है। पहला संदर्भ जो माँ और बेटी को जोड़ता है वह दूसरे संदर्भ के आ जाने से प्रतिद्वंद्विता की उत्पत्ति होती है जो माँ के भाई को बहन के बेटे से जोड़ता है [दूसरे शब्दों में, एक स्त्री अपने माँ से जायदाद उत्तराधिकार में पाती है और आगे अपनी बेटी को देती है, जबकी एक पुरुष अपनी बहन की जायदाद पर नियंत्रण रखता है, और वो नियंत्रण अपनी बहन के बेटे को देता है। इस तरह संपत्ति का कानूनी उत्तराधिकार तो माँ से बेटी को जाता है पर व्यावहारिक रूप में यह अधिकार मामा से भांजे को जाता है]।

खासी मातृवंश पुरुषों के लिए गहन भूमिका द्वंद्व की स्थिति उत्पन्न करता है। वो अपनी पत्नी और बच्चों एवं जन्म के घर की ज़िम्मेदारियों के बीच बँट जाते हैं। एक तरह से भूमिका-द्वंद्व द्वारा उत्पन्न इस तनाव का असर खासी स्त्रियों पर बहुत ज्यादा पड़ता है। एक स्त्री कभी सुनिश्चित नहीं कर सकती कि उसके पति को उसकी बहन का घर ज्यादा अच्छा लगता है या अपना स्वयं का। उसी तरह बहन सोचेगी कि शादीशुदा भाई अपनी बहन के प्रति ज़िम्मेदारियों को भूल जाएगा।

खासी मातृवंशीय व्यवस्था में उत्पन्न भूमिका-द्वंद्व से पुरुषों की बजाय अंततः स्त्रियाँ ज्यादा गहन रूप से प्रभावित होती हैं, सिर्फ इसलिए नहीं क्योंकि पुरुष अधिकारों के स्वामी हैं और स्त्रियाँ इससे वंचित हैं पर इसलिए भी क्योंकि समाज पुरुषों को नियम तोड़ने पर उन्हें कम सज़ा देता है या नज़र अंदाज़ कर देता है। खासी समाज में स्त्रियों के पास सिर्फ नाम का अधिकार होता है- असली अधिकार पुरुषों के हाथ में होता है। हाँ, इतना जरूर है कि यह व्यवस्था पुरुष के मातृ-नातेदार की तरफ झुकी हुई है न कि पितृ-नातेदार की तरफ। (दूसरे शब्दों में मातृवंश के बावजूद, पुरुष ही खासी समाज में शक्ति के स्वामी हैं, सिर्फ एक अंतर है कि एक पुरुष के लिए उसकी माँ की तरफ के रिश्तेदारों का उसके पिता की तरफ के रिश्तेदारों से ज्यादा महत्त्व होता है)।

खासी परिवार प्रणाली संघर्ष में भूमिका उत्पन्न करता है

1. पुरुष और स्त्री
2. पुरुष
3. स्त्री
4. बच्चे

Options :

485584156297. 1

485584156298. 2

485584156299. 3

485584156300. 4

Sub-Section Number :

3

Sub-Section Id :

4855842966

Question Shuffling Allowed :

No

Is Section Default? :

null

Question Number : 1166 Question Id : 48558439076 Question Type : MCQ Option Shuffling : No Is Question Mandatory : No Calculator : None Response Time : N.A Think Time : N.A Minimum Instruction Time : 0

Correct Marks : 5 Wrong Marks : 1

Question Key Details :

Key	Value
Comprehension	Comp2

The Indian nation-state is socially and culturally one of the most diverse countries of the world. It has a population of about 1.21 billion people, according to Census of India 2011 (Provisional), currently the second largest- and soon to become the largest- national population in the world. These billion-plus people speak about 1,632 different languages and dialects. As many as eighteen of these languages have been officially recognised and placed under the 8th Schedule of the Constitution, thus guaranteeing their legal status. In terms of religion, about 80.5% of the population are Hindus, who in turn are regionally specific, plural in beliefs and practices, and divided by castes and languages. About 13.4% of the population are Muslims, which makes Indian the world's third largest Muslim country after Indonesia and Pakistan. The other major religious communities are Christians (2.3%), Sikhs (1.9%), Buddhists (0.8%) and Jains (0.4%). Because of India's huge population, these small percentages can also add up to large absolute numbers.)

"A state is a body that successfully claims a monopoly of legitimate force in a particular territory." Who gave the definition?

1. Max Weber
2. Emile Durkheim
3. Karl Marx
4. E. P. Thompson

Options :

485584156301. 1
485584156302. 2
485584156303. 3
485584156304. 4

Question Number : 1166 **Question Id :** 48558439076 **Question Type :** MCQ **Option Shuffling :** No **Is Question Mandatory :** No **Calculator :** None **Response Time :** N.A **Think Time :** N.A **Minimum Instruction Time :** 0

Correct Marks : 5 **Wrong Marks :** 1

Question Key Details :

Key	Value
Comprehension	Comp2

भारतीय राष्ट्र-राज्य सामाजिक तथा सांस्कृतिक दृष्टि से विश्व के सर्वाधिक विविधतापूर्ण देशों में से एक है। इसकी जनसंख्या सन् 2011 की जनगणना के तदर्थ आँकड़ों के अनुसार यह 121.0 करोड़ है। जनसंख्या की दृष्टि से विश्वभर में इसका स्थान दूसरा है और जल्दी ही यह पहला स्थान प्राप्त करने वाला है। यहाँ के एक अरब (सौ करोड़) से ज्यादा लोग कुल मिलाकर लगभग 1,632 भिन्न-भिन्न भाषाएँ और बोलियाँ बोलते हैं। इन भाषाओं में से अठारह भाषाओं को आधिकारिक रूप से मान्यता देकर उन्हें संविधान की आठवीं अनुसूची में स्थान दिया गया है। इस प्रकार उन्हें विधिक प्रतिष्ठता की गारंटी दी गई है। जहाँ तक धर्म का सवाल है, यहाँ कि 80.5% आबादी हिन्दुओं की है, जो स्वयं भी क्षेत्रीय रूप से तरह-तरह के विश्वासों और व्यवहारों तथा जातियों एवं भाषाओं की दृष्टि से बंटे हुए हैं। लगभग 13.4% आबादी मुसलमानों की है जिसकी बदौलत भारत विश्व में इंडोनेशिया तथा पाकिस्तान के बाद तीसरा सबसे बड़ा मुसलमान देश है। अन्य प्रमुख धार्मिक समुदायों में ईसाई लगभग (2.3%), सिख (1.9%) बौद्ध (0.8%) और जैन (0.4%) हैं। भारत की विशाल जनसंख्या के कारण ये छोटे-छोटे प्रतिशतांश भी मिलकर बड़ी संख्याएँ बना सकते हैं।

"राज्य एक ऐसा निकाय होता है जो एक विशेष क्षेत्र में विधिसम्मत एकाधिकार का सफलतापूर्ण दावा करता है"

उपरोक्त परिभाषा किस की दी गई है:-

1. मेक्स वेबर
2. ईमाइल दरखेम
3. कार्ल मार्क
4. ई. पी. थम्पसन

Options :

485584156301. 1

485584156302. 2

485584156303. 3

485584156304. 4

Question Number : 1167 Question Id : 48558439077 Question Type : MCQ Option Shuffling : No Is Question Mandatory : No Calculator : None

Response Time : N.A Think Time : N.A Minimum Instruction Time : 0

Correct Marks : 5 Wrong Marks : 1

Question Key Details :

Key	Value
Comprehension	Comp2

The Indian nation-state is socially and culturally one of the most diverse countries of the world. It has a population of about 1.21 billion people, according to Census of India 2011 (Provisional), currently the second largest- and soon to become the largest- national population in the world. These billion-plus people speak about 1,632 different languages and dialects. As many as eighteen of these languages have been officially recognised and placed under the 8th Schedule of the Constitution, thus guaranteeing their legal status. In terms of religion, about 80.5% of the population are Hindus, who in turn are regionally specific, plural in beliefs and practices, and divided by castes and languages. About 13.4% of the population are Muslims, which makes Indian the world's third largest Muslim country after Indonesia and Pakistan. The other major religious communities are Christians (2.3%), Sikhs (1.9%), Buddhists (0.8%) and Jains (0.4%). Because of India's huge population, these small percentages can also add up to large absolute numbers.)

Assimilationist & integrationist strategies try to establish singular national identities.

Which of the following is not such a strategy?

1. Eliminating the autonomy of local or minority groups.
2. Adopting dominant group's language as the only official national language.
3. Building multiple & complementary identities.
4. Promoting dominant group's language & culture.

Options :

485584156305. 1

485584156306. 2

485584156307. 3

485584156308. 4

Question Number : 1167 Question Id : 48558439077 Question Type : MCQ Option Shuffling : No Is Question Mandatory : No Calculator : None

Response Time : N.A Think Time : N.A Minimum Instruction Time : 0

Correct Marks : 5 Wrong Marks : 1

Question Key Details :

Key	Value
Comprehension	Comp2

भारतीय राष्ट्र-राज्य सामाजिक तथा सांस्कृतिक दृष्टि से विश्व के सर्वाधिक विविधतापूर्ण देशों में से एक है। इसकी जनसंख्या सन् 2011 की जनगणना के तदर्थ आँकड़ों के अनुसार यह 121.0 करोड़ है। जनसंख्या की दृष्टि से विश्वभर में इसका स्थान दूसरा है और जल्दी ही यह पहला स्थान प्राप्त करने वाला है। यहाँ के एक अरब (सौ करोड़) से ज्यादा लोग कुल मिलाकर लगभग 1,632 भिन्न-भिन्न भाषाएँ और बोलियाँ बोलते हैं। इन भाषाओं में से अठारह भाषाओं को आधिकारिक रूप से मान्यता देकर उन्हें संविधान की आठवीं अनुसूची में स्थान दिया गया है। इस प्रकार उन्हें विधिक प्रतिष्ठता की गारंटी दी गई है। जहाँ तक धर्म का सवाल है, यहाँ कि 80.5% आबादी हिन्दुओं की है, जो स्वयं भी क्षेत्रीय रूप से तरह-तरह के विश्वासों और व्यवहारों तथा जातियों एवं भाषाओं की दृष्टि से बँटे हुए हैं। लगभग 13.4% आबादी मुसलमानों की है जिसकी बढ़ोतरी भारत विश्व में इंडोनेशिया तथा पाकिस्तान के बाद तीसरा सबसे बड़ा मुसलमान देश है। अन्य प्रमुख धार्मिक समुदायों में ईसाई लगभग (2.3%), सिख (1.9%) बौद्ध (0.8%) और जैन (0.4%) हैं। भारत की विशाल जनसंख्या के कारण ये छोटे-छोटे प्रतिशतों भी मिलकर बड़ी संख्याएँ बना सकते हैं।

"आत्म सात्करणवादी और एकीकरणवादी रणनीतियाँ एकत्र राष्ट्रीय पहचान स्थापित करने की कोशिश करती है।"

निम्नलिखित में से ऐसी रणनीति नहीं है:

1. स्थानीय या अल्पसंख्यकों की स्वायत्ता को समाप्त करना
2. प्रभावशाली समूह की भाषा को एकमात्र राजकीय राष्ट्रभाषा के रूप में अपनाना
3. बहु एवं पूरक पहचान बनाना
4. प्रभावशाली समूह की भाषा व संस्कृति को बढ़ावा देना

Options :

485584156305. 1
485584156306. 2
485584156307. 3
485584156308. 4

Question Number : 1168 Question Id : 48558439078 Question Type : MCQ Option Shuffling : No Is Question Mandatory : No Calculator : None Response Time : N.A Think Time : N.A Minimum Instruction Time : 0 Correct Marks : 5 Wrong Marks : 1

Question Key Details :

Key	Value
Comprehension	Comp2

The Indian nation-state is socially and culturally one of the most diverse countries of the world. It has a population of about 1.21 billion people, according to Census of India 2011 (Provisional), currently the second largest- and soon to become the largest- national population in the world. These billion-plus people speak about 1,632 different languages and dialects. As many as eighteen of these languages have been officially recognised and placed under the 8th Schedule of the Constitution, thus guaranteeing their legal status. In terms of religion, about 80.5% of the population are Hindus, who in turn are regionally specific, plural in beliefs and practices, and divided by castes and languages. About 13.4% of the population are Muslims, which makes India the world's third largest Muslim country after Indonesia and Pakistan. The other major religious communities are Christians (2.3%), Sikhs (1.9%), Buddhists (0.8%) and Jains (0.4%). Because of India's huge population, these small percentages can also add up to large absolute numbers.)

Which schedule of Indian Constitution protects the legal status of languages:

1. Fifth Schedule
2. Eighth Schedule
3. Sixth Schedule
4. Tenth Schedule

Options :

485584156309. 1
 485584156310. 2
 485584156311. 3
 485584156312. 4

Question Number : 1168 Question Id : 48558439078 Question Type : MCQ Option Shuffling : No Is Question Mandatory : No Calculator : None
Response Time : N.A Think Time : N.A Minimum Instruction Time : 0
Correct Marks : 5 Wrong Marks : 1

Question Key Details :

Key	Value
Comprehension	Comp2

भारतीय राष्ट्र-राज्य सामाजिक तथा सांस्कृतिक दृष्टि से विश्व के सर्वाधिक विविधतापूर्ण देशों में से एक है। इसकी जनसंख्या सन् 2011 की जनगणना के तदर्थ आँकड़ों के अनुसार यह 121.0 करोड़ है। जनसंख्या की दृष्टि से विश्वभर में इसका स्थान दूसरा है और जल्दी ही यह पहला स्थान प्राप्त करने वाला है। यहाँ के एक अरब (सौ करोड़) से ज्यादा लोग कुल मिलाकर लगभग 1,632 भिन्न-भिन्न भाषाएँ और बोलियाँ बोलते हैं। इन भाषाओं में से अठारह भाषाओं को आधिकारिक रूप से मान्यता देकर उन्हें संविधान की आठवीं अनुसूची में स्थान दिया गया है। इस प्रकार उन्हें विधिक प्रतिष्ठता की गारंटी दी गई है। जहाँ तक धर्म का सवाल है, यहाँ कि 80.5% आबादी हिन्दुओं की है, जो स्वयं भी क्षेत्रीय रूप से तरह-तरह के विश्वासों और व्यवहारों तथा जातियों एवं भाषाओं की दृष्टि से बंटे हुए हैं। लगभग 13.4% आबादी मुसलमानों की है जिसकी बदौलत भारत विश्व में इंडोनेशिया तथा पाकिस्तान के बाद तीसरा सबसे बड़ा मुसलमान देश है। अन्य प्रमुख धार्मिक समुदायों में ईसाई लगभग (2.3%), सिख (1.9%) बौद्ध (0.8%) और जैन (0.4%) हैं। भारत की विशाल जनसंख्या के कारण ये छोटे-छोटे प्रतिशतों भी मिलकर बड़ी संख्याएँ बना सकते हैं।

निम्न में से भारतीय संविधान की कौन सी अनुसूची, भाषा की विविध प्रतिष्ठा को संरक्षित करती है।

1. पाँचवी अनुसूची
2. आठवी अनुसूची
3. छठी अनुसूची
4. दसवी अनुसूची

Options :

485584156309. 1
 485584156310. 2
 485584156311. 3
 485584156312. 4

Question Number : 1169 Question Id : 48558439079 Question Type : MCQ Option Shuffling : No Is Question Mandatory : No Calculator : None
Response Time : N.A Think Time : N.A Minimum Instruction Time : 0
Correct Marks : 5 Wrong Marks : 1

Question Key Details :

Key	Value
Comprehension	Comp2

The Indian nation-state is socially and culturally one of the most diverse countries of the world. It has a population of about 1.21 billion people, according to Census of India 2011 (Provisional), currently the second largest- and soon to become the largest- national population in the world. These billion-plus people speak about 1,632 different languages and dialects. As many as eighteen of these languages have been officially recognised and placed under the 8th Schedule of the Constitution, thus guaranteeing their legal status. In terms of religion, about 80.5% of the population are Hindus, who in turn are regionally specific, plural in beliefs and practices, and divided by castes and languages. About 13.4% of the population are Muslims, which makes Indian the world's third largest Muslim country after Indonesia and Pakistan. The other major religious communities are Christians (2.3%), Sikhs (1.9%), Buddhists (0.8%) and Jains (0.4%). Because of India's huge population, these small percentages can also add up to large absolute numbers.)

An Alternative to the nation-state where various 'nations' - of various ethnic, religious, linguistic or indigenous identities- can coexist peacefully is called:

1. Multi State
2. Ethnocentrism
3. Chauvinism
4. State-Nation

Options :

485584156313. 1
485584156314. 2
485584156315. 3
485584156316. 4

Question Number : 1169 Question Id : 48558439079 Question Type : MCQ Option Shuffling : No Is Question Mandatory : No Calculator : None Response Time : N.A Think Time : N.A Minimum Instruction Time : 0

Correct Marks : 5 Wrong Marks : 1

Question Key Details :

Key	Value
Comprehension	Comp2

भारतीय राष्ट्र-राज्य सामाजिक तथा सांस्कृतिक दृष्टि से विश्व के सर्वाधिक विविधतापूर्ण देशों में से एक है। इसकी जनसंख्या सन् 2011 की जनगणना के तदर्थ आँकड़ों के अनुसार यह 121.0 करोड़ है। जनसंख्या की दृष्टि से विश्वभर में इसका स्थान दूसरा है और जल्दी ही यह पहला स्थान प्राप्त करने वाला है। यहाँ के एक अरब (सौ करोड़) से ज्यादा लोग कुल मिलाकर लगभग 1,632 भिन्न-भिन्न भाषाएँ और बोलियाँ बोलते हैं। इन भाषाओं में से अठारह भाषाओं को आधिकारिक रूप से मान्यता देकर उन्हें संविधान की आठवीं अनुसूची में स्थान दिया गया है। इस प्रकार उन्हें विधिक प्रतिष्ठता की गारंटी दी गई है। जहाँ तक धर्म का सवाल है, यहाँ कि 80.5% आबादी हिन्दुओं की है, जो स्वयं भी क्षेत्रीय रूप से तरह-तरह के विश्वासों और व्यवहारों तथा जातियों एवं भाषाओं की दृष्टि से बँटे हुए हैं। लगभग 13.4% आबादी मुसलमानों की है जिसकी बढ़ोतरी भारत विश्व में इंडोनेशिया तथा पाकिस्तान के बाद तीसरा सबसे बड़ा मुसलमान देश है। अन्य प्रमुख धार्मिक समुदायों में ईसाई लगभग (2.3%), सिख (1.9%) बौद्ध (0.8%) और जैन (0.4%) हैं। भारत की विशाल जनसंख्या के कारण ये छोटे-छोटे प्रतिशतों भी मिलकर बड़ी संख्याएँ बना सकते हैं।

जहाँ राष्ट्र-राज्य का एक विकल्प हो, वहाँ नृजातिय धार्मिक, भाषाई या देशज पहचान पर आधारित विभिन्न राष्ट्र हो-

शांति से एक साथ रह सकते है तो कहते है-

1. बहु राष्ट्र
2. जातीयवाद
3. वर्ण वाद
4. राज्य-राष्ट्र

Options :

485584156313. 1
485584156314. 2
485584156315. 3
485584156316. 4

Question Number : 1170 Question Id : 48558439080 Question Type : MCQ Option Shuffling : No Is Question Mandatory : No Calculator : None Response Time : N.A Think Time : N.A Minimum Instruction Time : 0

Correct Marks : 5 Wrong Marks : 1

Question Key Details :

Key	Value
Comprehension	Comp2

The Indian nation-state is socially and culturally one of the most diverse countries of the world. It has a population of about 1.21 billion people, according to Census of India 2011 (Provisional), currently the second largest- and soon to become the largest- national population in the world. These billion-plus people speak about 1,632 different languages and dialects. As many as eighteen of these languages have been officially recognised and placed under the 8th Schedule of the Constitution, thus guaranteeing their legal status. In terms of religion, about 80.5% of the population are Hindus, who in turn are regionally specific, plural in beliefs and practices, and divided by castes and languages. About 13.4% of the population are Muslims, which makes Indian the world's third largest Muslim country after Indonesia and Pakistan. The other major religious communities are Christians (2.3%), Sikhs (1.9%), Buddhists (0.8%) and Jains (0.4%). Because of India's huge population, these small percentages can also add up to large absolute numbers.)

The passage describes the Indian nation-state as what kind?

1. Multi-Lingual, multi-religious
2. Multi-Lingual, mono-religious
3. Monolingual, multi-religious
4. Monolingual, multi- ethnic

Options :

485584156317. 1
 485584156318. 2
 485584156319. 3
 485584156320. 4

Question Number : 1170 Question Id : 48558439080 Question Type : MCQ Option Shuffling : No Is Question Mandatory : No Calculator : None Response Time : N.A Think Time : N.A Minimum Instruction Time : 0

Correct Marks : 5 Wrong Marks : 1

Question Key Details :

Key	Value
Comprehension	Comp2

भारतीय राष्ट्र-राज्य सामाजिक तथा सांस्कृतिक दृष्टि से विश्व के सर्वाधिक विविधतापूर्ण देशों में से एक है। इसकी जनसंख्या सन् 2011 की जनगणना के तदर्थ आँकड़ों के अनुसार यह 121.0 करोड़ है। जनसंख्या की दृष्टि से विश्वभर में इसका स्थान दूसरा है और जल्दी ही यह पहला स्थान प्राप्त करने वाला है। यहाँ के एक अरब (सौ करोड़) से ज्यादा लोग कुल मिलाकर लगभग 1,632 भिन्न-भिन्न भाषाएँ और बोलियाँ बोलते हैं। इन भाषाओं में से अठारह भाषाओं को आधिकारिक रूप से मान्यता देकर उन्हें संविधान की आठवीं अनुसूची में स्थान दिया गया है। इस प्रकार उन्हें विधिक प्रतिष्ठता की गारंटी दी गई है। जहाँ तक धर्म का सवाल है, यहाँ कि 80.5% आबादी हिन्दुओं की है, जो स्वयं भी क्षेत्रीय रूप से तरह-तरह के विश्वासों और व्यवहारों तथा जातियों एवं भाषाओं की दृष्टि से बँटे हुए हैं। लगभग 13.4% आबादी मुसलमानों की है जिसकी बदौलत भारत विश्व में इंडोनेशिया तथा पाकिस्तान के बाद तीसरा सबसे बड़ा मुसलमान देश है। अन्य प्रमुख धार्मिक समुदायों में ईसाई लगभग (2.3%), सिख (1.9 %) बौद्ध (0.8%) और जैन (0.4%) हैं। भारत की विशाल जनसंख्या के कारण ये छोटे-छोटे प्रतिशतांश भी मिलकर बड़ी संख्याएँ बना सकते हैं।

यह गद्यांश भारतीय राष्ट्र-राज्य को किस रूप में वर्णित करता है।

1. बहु-भाषाई, बहु-धार्मिक
2. बहु-भाषाई, एक धर्मी
3. एक-भाषाई, बहु धार्मिक
4. एक भाषाई-बहु जातिय

Options :

485584156317. 1

485584156318. 2

485584156319. 3

485584156320. 4

General Test

Group Number : 24
Group Id : 485584905
Group Maximum Duration : 60
Group Minimum Duration : 60
Show Attended Group? : No
Edit Attended Group? : No
Break time : 0
Group Marks : 250
Is this Group for Examiner? : No
Examiner permission : Cant View
Show Progress Bar? : No

General Test

Section Id : 4855841049
Section Number : 1
Section type : Online
Mandatory or Optional : Mandatory
Number of Questions : 60
Number of Questions to be attempted : 50
Section Marks : 250
Enable Mark as Answered Mark for Review and Clear Response : Yes
Maximum Instruction Time : 0
Sub-Section Number : 1
Sub-Section Id : 4855842967
Question Shuffling Allowed : Yes
Is Section Default? : null

Question Number : 1171 **Question Id :** 48558438401 **Question Type :** MCQ **Option Shuffling :** No **Is Question Mandatory :** No **Calculator :** None
Response Time : N.A **Think Time :** N.A **Minimum Instruction Time :** 0

Correct Marks : 5 **Wrong Marks :** 1

Question Key Details :

Key	Value
Comprehension	MCQ

In $\triangle ABC$, BD is the internal bisector of $\angle B$ meeting AC at D . If $CD = 7$ cm and $AC = 10.5$ cm, then $AB:BC$ is

1. 2:3

2. 1:2

3. 3:4

4. 3:2

Options :

485584153601. 1

485584153602. 2

485584153603. 3

485584153604. 4

Question Number : 1171 **Question Id :** 48558438401 **Question Type :** MCQ **Option Shuffling :** No **Is Question Mandatory :** No **Calculator :** None
Response Time : N.A **Think Time :** N.A **Minimum Instruction Time :** 0

Correct Marks : 5 **Wrong Marks :** 1

Question Key Details :

Key	Value
Comprehension	MCQ

यदि $\triangle ABC$ में BD , $\angle B$ को अंतरिक समद्विभाजित कर AC भुजा में बिन्दु D पर मिलता है। यदि $CD = 7$ cm और $AC = 10.5$ cm तो $AB:BC$ _____ है।

1. 2:3
2. 1:2
3. 3:4
4. 3:2

Options :

485584153601. 1
 485584153602. 2
 485584153603. 3
 485584153604. 4

Question Number : 1172 Question Id : 48558438402 Question Type : MCQ Option Shuffling : No Is Question Mandatory : No Calculator : None
 Response Time : N.A Think Time : N.A Minimum Instruction Time : 0
 Correct Marks : 5 Wrong Marks : 1

Question Key Details :

Key	Value
Comprehension	MCQ

Which one of the following is not an Arithmetic progression?

1. 1, 3, 5, 7, ---
2. 2, 4, 8, 16 ---
3. -5, -10, -15, -20 ---
4. 12, 16, 20, 24 ---

Options :

485584153605. 1
 485584153606. 2
 485584153607. 3
 485584153608. 4

Question Number : 1172 Question Id : 48558438402 Question Type : MCQ Option Shuffling : No Is Question Mandatory : No Calculator : None
 Response Time : N.A Think Time : N.A Minimum Instruction Time : 0
 Correct Marks : 5 Wrong Marks : 1

Question Key Details :

Key	Value
Comprehension	MCQ

निम्नलिखित में कौन सा अंकगणितीय श्रेणी नहीं है।

1. 1, 3, 5, 7, ---
2. 2, 4, 8, 16 ---
3. -5, -10, -15, -20 ---
4. 12, 16, 20, 24 ---

Options :

485584153605. 1
 485584153606. 2

485584153607.3

485584153608.4

Question Number : 1173 Question Id : 48558438403 Question Type : MCQ Option Shuffling : No Is Question Mandatory : No Calculator : None
Response Time : N.A Think Time : N.A Minimum Instruction Time : 0

Correct Marks : 5 Wrong Marks : 1

Question Key Details :

Key	Value
Comprehension	MCQ

Simplify $\sqrt{54 - \sqrt{20 + \sqrt{32 - \sqrt{49}}}}$

1. $\sqrt{17}$

2. 7

3. 17

4. $3\sqrt{17}$

Options :

485584153609.1

485584153610.2

485584153611.3

485584153612.4

Question Number : 1173 Question Id : 48558438403 Question Type : MCQ Option Shuffling : No Is Question Mandatory : No Calculator : None
Response Time : N.A Think Time : N.A Minimum Instruction Time : 0

Correct Marks : 5 Wrong Marks : 1

Question Key Details :

Key	Value
Comprehension	MCQ

सरल कीजिए $\sqrt{54 - \sqrt{20 + \sqrt{32 - \sqrt{49}}}}$

1. $\sqrt{17}$

2. 7

3. 17

4. $3\sqrt{17}$

Options :

485584153609.1

485584153610.2

485584153611.3

485584153612.4

Question Number : 1174 Question Id : 48558438404 Question Type : MCQ Option Shuffling : No Is Question Mandatory : No Calculator : None
Response Time : N.A Think Time : N.A Minimum Instruction Time : 0

Correct Marks : 5 Wrong Marks : 1

Question Key Details :

Key	Value
Comprehension	MCQ

$$121.2 - 1.212 + 12.12$$

1. 132.24
2. 132.108
3. 132.112
4. 132.132

Options :

485584153613. 1
485584153614. 2
485584153615. 3
485584153616. 4

Question Number : 1174 Question Id : 48558438404 Question Type : MCQ Option Shuffling : No Is Question Mandatory : No Calculator : None Response Time : N.A Think Time : N.A Minimum Instruction Time : 0

Correct Marks : 5 Wrong Marks : 1

Question Key Details :

Key	Value
Comprehension	MCQ

आकलन कीजिए: $121.2 - 1.212 + 12.12$

1. 132.24
2. 132.108
3. 132.112
4. 132.132

Options :

485584153613. 1
485584153614. 2
485584153615. 3
485584153616. 4

Question Number : 1175 Question Id : 48558438405 Question Type : MCQ Option Shuffling : No Is Question Mandatory : No Calculator : None Response Time : N.A Think Time : N.A Minimum Instruction Time : 0

Correct Marks : 5 Wrong Marks : 1

Question Key Details :

Key	Value
Comprehension	MCQ

Four men can do a work in 10 days and 5 women can do the same work in 12 days. How many women must work with 3 men to do the same work in 8 days?

1. 2
2. 3
3. 4
4. 5

Options :

485584153617. 1
485584153618. 2
485584153619. 3
485584153620. 4

Question Number : 1175 Question Id : 48558438405 Question Type : MCQ Option Shuffling : No Is Question Mandatory : No Calculator : None
Response Time : N.A Think Time : N.A Minimum Instruction Time : 0

Correct Marks : 5 Wrong Marks : 1

Question Key Details :

Key	Value
Comprehension	MCQ

4 आदमी किसी काम को 10 दिन में करते हैं और 5 औरतें उसी काम को 12 दिन में करती हैं। इसी काम को करने के लिए 3 आदमियों के साथ कितनी औरतें काम करें कि यह काम 8 दिन में पूरा हो जाए।

1. 2

2. 3

3. 4

4. 5

Options :

485584153617. 1

485584153618. 2

485584153619. 3

485584153620. 4

Question Number : 1176 Question Id : 48558438406 Question Type : MCQ Option Shuffling : No Is Question Mandatory : No Calculator : None
Response Time : N.A Think Time : N.A Minimum Instruction Time : 0

Correct Marks : 5 Wrong Marks : 1

Question Key Details :

Key	Value
Comprehension	MCQ

Arun covers first 28 kms of his journey in 45 minutes and the remaining 32 kms in 35 minutes. What is his average speed in m/s?

1. $12\frac{1}{2}$

2. 13

3. 15

4. $16\frac{1}{2}$

Options :

485584153621. 1

485584153622. 2

485584153623. 3

485584153624. 4

Question Number : 1176 Question Id : 48558438406 Question Type : MCQ Option Shuffling : No Is Question Mandatory : No Calculator : None
Response Time : N.A Think Time : N.A Minimum Instruction Time : 0

Correct Marks : 5 Wrong Marks : 1

Question Key Details :

Key	Value
Comprehension	MCQ

अरुण अपनी यात्रा में पहले 28 km की दूरी 45 मिनट में तय करता है और शेष 32 km की दूरी 35 मिनट में। उसकी m/s में औसत चाल क्या है?

1. $12\frac{1}{2}$
2. 13
3. 15
4. $16\frac{1}{2}$

Options :

485584153621. 1
485584153622. 2
485584153623. 3
485584153624. 4

Question Number : 1177 Question Id : 48558438407 Question Type : MCQ Option Shuffling : No Is Question Mandatory : No Calculator : None Response Time : N.A Think Time : N.A Minimum Instruction Time : 0

Correct Marks : 5 Wrong Marks : 1

Question Key Details :

Key	Value
Comprehension	MCQ

A metallic sphere of radius 8 cm is melted to form a cone with radius same as that of sphere. What is the height of the cone (in cm)?

1. 10.7
2. 12
3. 16
4. 32

Options :

485584153625. 1
485584153626. 2
485584153627. 3
485584153628. 4

Question Number : 1177 Question Id : 48558438407 Question Type : MCQ Option Shuffling : No Is Question Mandatory : No Calculator : None Response Time : N.A Think Time : N.A Minimum Instruction Time : 0

Correct Marks : 5 Wrong Marks : 1

Question Key Details :

Key	Value
Comprehension	MCQ

एक 8 cm त्रिज्या के गोले को पिघलाकर गोले के समान त्रिज्या का शंकु बनाया जाता है। शंकु की ऊँचाई (cm) में क्या होगी?

1. 10.7
2. 12
3. 16
4. 32

Options :

485584153625. 1

485584153626. 2

485584153627. 3

485584153628. 4

Question Number : 1178 Question Id : 48558438408 Question Type : MCQ Option Shuffling : No Is Question Mandatory : No Calculator : None
Response Time : N.A Think Time : N.A Minimum Instruction Time : 0

Correct Marks : 5 Wrong Marks : 1

Question Key Details :

Key	Value
Comprehension	MCQ

A is three years younger than B, who is twice as old as C. If the sum of their ages be 52 years, then what will be the age of B (in years) two years hence?

1. 20

2. 22

3. 24

4. 26

Options :

485584153629. 1

485584153630. 2

485584153631. 3

485584153632. 4

Question Number : 1178 Question Id : 48558438408 Question Type : MCQ Option Shuffling : No Is Question Mandatory : No Calculator : None
Response Time : N.A Think Time : N.A Minimum Instruction Time : 0

Correct Marks : 5 Wrong Marks : 1

Question Key Details :

Key	Value
Comprehension	MCQ

A आयु में B से तीन वर्ष छोटा है और B, C की आयु का दोगुना है। यदि इनकी आयु का योग 52 वर्ष है तो आज से 2 वर्ष पश्चात B की आयु (वर्ष में) क्या होगी?

1. 20

2. 22

3. 24

4. 26

Options :

485584153629. 1

485584153630. 2

485584153631. 3

485584153632. 4

Question Number : 1179 Question Id : 48558438409 Question Type : MCQ Option Shuffling : No Is Question Mandatory : No Calculator : None
Response Time : N.A Think Time : N.A Minimum Instruction Time : 0

Correct Marks : 5 Wrong Marks : 1

Question Key Details :

Key	Value
Comprehension	MCQ

If $2 \sin 2\theta = \sqrt{3}$, where $0 \leq 2\theta \leq 90^\circ$, then find the value of $\cos 3\theta$

1. 0

2. 1

3. $\frac{\sqrt{3}}{2}$

4. $\frac{1}{2}$

Options :

485584153633. 1

485584153634. 2

485584153635. 3

485584153636. 4

Question Number : 1179 Question Id : 48558438409 Question Type : MCQ Option Shuffling : No Is Question Mandatory : No Calculator : None

Response Time : N.A Think Time : N.A Minimum Instruction Time : 0

Correct Marks : 5 Wrong Marks : 1

Question Key Details :

Key	Value
Comprehension	MCQ

यदि $2 \sin 2\theta = \sqrt{3}$ जहाँ $0 \leq 2\theta \leq 90^\circ$, तो $\cos 3\theta$ का मान ज्ञात कीजिए।

1. 0

2. 1

3. $\frac{\sqrt{3}}{2}$

4. $\frac{1}{2}$

Options :

485584153633. 1

485584153634. 2

485584153635. 3

485584153636. 4

Question Number : 1180 Question Id : 48558438410 Question Type : MCQ Option Shuffling : No Is Question Mandatory : No Calculator : None

Response Time : N.A Think Time : N.A Minimum Instruction Time : 0

Correct Marks : 5 Wrong Marks : 1

Question Key Details :

Key	Value
Comprehension	MCQ

Mean of 28, 30, 26, (K+6) and (K+1) is 25. Find the mean of 32, 39, and 2k

1. 25

2. 30

3. 35

4. 36

Options :

485584153637. 1

485584153638. 2
485584153639. 3
485584153640. 4

Question Number : 1180 Question Id : 48558438410 Question Type : MCQ Option Shuffling : No Is Question Mandatory : No Calculator : None
Response Time : N.A Think Time : N.A Minimum Instruction Time : 0
Correct Marks : 5 Wrong Marks : 1

Question Key Details :

Key	Value
Comprehension	MCQ

28, 30, 26, (K+6) और (K+1) का माध्य 25 है। 32, 39 और 2k का माध्य ज्ञात कीजिए।

1. 25
2. 30
3. 35
4. 36

Options :

485584153637. 1
485584153638. 2
485584153639. 3
485584153640. 4

Question Number : 1181 Question Id : 48558438411 Question Type : MCQ Option Shuffling : No Is Question Mandatory : No Calculator : None
Response Time : N.A Think Time : N.A Minimum Instruction Time : 0
Correct Marks : 5 Wrong Marks : 1

Question Key Details :

Key	Value
Comprehension	MCQ

A card is drawn at random from a well shuffled pack of 52 cards. What is the probability of getting a 'two' of hearts or a 'three' of diamonds

1. $\frac{2}{13}$
2. $\frac{5}{13}$
3. $\frac{1}{26}$
4. $\frac{5}{26}$

Options :

485584153641. 1
485584153642. 2
485584153643. 3
485584153644. 4

Question Number : 1181 Question Id : 48558438411 Question Type : MCQ Option Shuffling : No Is Question Mandatory : No Calculator : None
Response Time : N.A Think Time : N.A Minimum Instruction Time : 0
Correct Marks : 5 Wrong Marks : 1

Question Key Details :

Key	Value
Comprehension	MCQ

एक अच्छी तरह से फेंटे गए 52 तारा के पत्तों की गड्डी से एक पत्ता निकाला गया। 2 पान या 3 ईट के पत्ते के आने की प्रायिकता क्या होगी?

1. $\frac{2}{13}$

2. $\frac{5}{13}$

3. $\frac{1}{26}$

4. $\frac{5}{26}$

Options :

485584153641. 1

485584153642. 2

485584153643. 3

485584153644. 4

Question Number : 1182 Question Id : 48558438412 Question Type : MCQ Option Shuffling : No Is Question Mandatory : No Calculator : None Response Time : N.A Think Time : N.A Minimum Instruction Time : 0

Correct Marks : 5 Wrong Marks : 1

Question Key Details :

Key	Value
Comprehension	MCQ

Find the average of first 10 prime numbers.

1. 10

2. 10.1

3. 12.2

4. 12.9

Options :

485584153645. 1

485584153646. 2

485584153647. 3

485584153648. 4

Question Number : 1182 Question Id : 48558438412 Question Type : MCQ Option Shuffling : No Is Question Mandatory : No Calculator : None Response Time : N.A Think Time : N.A Minimum Instruction Time : 0

Correct Marks : 5 Wrong Marks : 1

Question Key Details :

Key	Value
Comprehension	MCQ

पहली 10 अभाज्य संख्याओं का औसत ज्ञात कीजिए।

1. 10

2. 10.1

3. 12.2

4. 12.9

Options :

485584153645. 1

485584153646. 2

485584153647. 3

485584153648. 4

Question Number : 1183 Question Id : 48558438413 Question Type : MCQ Option Shuffling : No Is Question Mandatory : No Calculator : None Response Time : N.A Think Time : N.A Minimum Instruction Time : 0

Correct Marks : 5 Wrong Marks : 1

Question Key Details :

Key	Value
Comprehension	MCQ

In what ratio the line segment joining the points $(-2, 3)$ and $(3, -7)$ is divided by x -axis?

1. 2:3

2. 3:2

3. 3:7

4. 1:4

Options :

485584153649. 1

485584153650. 2

485584153651. 3

485584153652. 4

Question Number : 1183 Question Id : 48558438413 Question Type : MCQ Option Shuffling : No Is Question Mandatory : No Calculator : None Response Time : N.A Think Time : N.A Minimum Instruction Time : 0

Correct Marks : 5 Wrong Marks : 1

Question Key Details :

Key	Value
Comprehension	MCQ

$(-2, 3)$ और $(3, -7)$ को जोड़ने वाले रेखा खण्ड को x -अक्ष किस अनुपात में विभाजित करेगा ?

1. 2:3

2. 3:2

3. 3:7

4. 1:4

Options :

485584153649. 1

485584153650. 2

485584153651. 3

485584153652. 4

Question Number : 1184 Question Id : 48558438414 Question Type : MCQ Option Shuffling : No Is Question Mandatory : No Calculator : None Response Time : N.A Think Time : N.A Minimum Instruction Time : 0

Correct Marks : 5 Wrong Marks : 1

Question Key Details :

Key	Value
Comprehension	MCQ

The difference between length and breadth of a rectangle is 15 m. If the perimeter of rectangle is 162 m, then the area of the rectangle (in m^2) is,

1. 3168
2. 2524
3. 1872
4. 1584

Options :

485584153653. 1
485584153654. 2
485584153655. 3
485584153656. 4

Question Number : 1184 Question Id : 48558438414 Question Type : MCQ Option Shuffling : No Is Question Mandatory : No Calculator : None
Response Time : N.A Think Time : N.A Minimum Instruction Time : 0
Correct Marks : 5 Wrong Marks : 1

Question Key Details :

Key	Value
Comprehension	MCQ

किसी आयत की लंबाई और चौड़ाई का अंतर 15m है। यदि इस आयत का परिमाप 162m है तो आयत का क्षेत्रफल (m^2 में) है _____

1. 3168
2. 2524
3. 1872
4. 1584

Options :

485584153653. 1
485584153654. 2
485584153655. 3
485584153656. 4

Question Number : 1185 Question Id : 48558438415 Question Type : MCQ Option Shuffling : No Is Question Mandatory : No Calculator : None
Response Time : N.A Think Time : N.A Minimum Instruction Time : 0
Correct Marks : 5 Wrong Marks : 1

Question Key Details :

Key	Value
Comprehension	MCQ

A shopkeeper marked his goods 40% higher than their cost price and allows 20% discount on every item. Find his net profit percentage.

1. 20%
2. 15%
3. 12%
4. 10%

Options :

485584153657. 1
485584153658. 2

485584153659. 3

485584153660. 4

Question Number : 1185 Question Id : 48558438415 Question Type : MCQ Option Shuffling : No Is Question Mandatory : No Calculator : None
Response Time : N.A Think Time : N.A Minimum Instruction Time : 0

Correct Marks : 5 Wrong Marks : 1

Question Key Details :

Key	Value
Comprehension	MCQ

एक दुकानदार ने अपने समान को क्रय मूल्य से 40% अधिक पर अंकित किया और प्रत्येक वस्तु पर 20% की छूट दी।
उसका शुद्ध लाभ प्रतिशत ज्ञात कीजिए।

1. 20%

2. 15%

3. 12%

4. 10%

Options :

485584153657. 1

485584153658. 2

485584153659. 3

485584153660. 4

Question Number : 1186 Question Id : 48558438416 Question Type : MCQ Option Shuffling : No Is Question Mandatory : No Calculator : None
Response Time : N.A Think Time : N.A Minimum Instruction Time : 0

Correct Marks : 5 Wrong Marks : 1

Question Key Details :

Key	Value
Comprehension	MCQ

A and B started a business by investing ₹10,000 and ₹18,000 respectively. After 4 months C joined the business with a capital of ₹12,000. After two more months B left the business his capital. At the end of the year A got a share of ₹7,500 in the profit. What is the total profit earned?

1. ₹12750

2. ₹18000

3. ₹20250

4. ₹22300

Options :

485584153661. 1

485584153662. 2

485584153663. 3

485584153664. 4

Question Number : 1186 Question Id : 48558438416 Question Type : MCQ Option Shuffling : No Is Question Mandatory : No Calculator : None
Response Time : N.A Think Time : N.A Minimum Instruction Time : 0

Correct Marks : 5 Wrong Marks : 1

Question Key Details :

Key	Value
Comprehension	MCQ

A और B ने क्रमशः ₹10,000 एवं ₹ 18,000 निवेश कर एक व्यवसाय प्रारंभ किया। चार महीनों के पश्चात C, ₹ 12,000 की पूंजी के साथ इस व्यवसाय में शामिल हुआ। उसके 2 महीनों के पश्चात B ने अपनी पूंजी के साथ व्यवसाय छोड़ दिया। साल के अंत में A को ₹ 7,500 का लाभ हुआ। कुल कमाया गया लाभ क्या होगा ?

1. ₹12750
2. ₹18000
3. ₹20250
4. ₹22300

Options :

485584153661. 1
485584153662. 2
485584153663. 3
485584153664. 4

Question Number : 1187 Question Id : 48558438417 Question Type : MCQ Option Shuffling : No Is Question Mandatory : No Calculator : None Response Time : N.A Think Time : N.A Minimum Instruction Time : 0 Correct Marks : 5 Wrong Marks : 1

Question Key Details :

Key	Value
Comprehension	MCQ

A shopkeeper bought an item for ₹600 and marked on it 50% higher than its cost price. He allowed 20% discount on it. Find his profit percentage

1. 20%
2. 25%
3. 30%
4. 36%

Options :

485584153665. 1
485584153666. 2
485584153667. 3
485584153668. 4

Question Number : 1187 Question Id : 48558438417 Question Type : MCQ Option Shuffling : No Is Question Mandatory : No Calculator : None Response Time : N.A Think Time : N.A Minimum Instruction Time : 0 Correct Marks : 5 Wrong Marks : 1

Question Key Details :

Key	Value
Comprehension	MCQ

एक दुकानदार ने ₹ 600 में एक सामान खरीदा और 50% आधिक्य से इसका मूल्य अंकित किया। उसने 20% की छूट दी। उसके लाभ प्रतिशत ज्ञात कीजिए।

1. 20%
2. 25%
3. 30%
4. 36%

Options :

485584153665. 1

485584153666. 2
485584153667. 3
485584153668. 4

Question Number : 1188 Question Id : 48558438418 Question Type : MCQ Option Shuffling : No Is Question Mandatory : No Calculator : None
Response Time : N.A Think Time : N.A Minimum Instruction Time : 0

Correct Marks : 5 Wrong Marks : 1

Question Key Details :

Key	Value
Comprehension	MCQ

A borrowed Rs 10000 each from his friends B and C for 2 years. He was supposed to pay compound interest at 10% per annum to B and simple interest 11% per annum to C. Who charged more interest at the end of 2 years and how much more?

1. B, Rs 20 more
2. B, Rs 80 more
3. C, Rs 100 more
4. C, Rs 120 more

Options :

485584153669. 1
485584153670. 2
485584153671. 3
485584153672. 4

Question Number : 1188 Question Id : 48558438418 Question Type : MCQ Option Shuffling : No Is Question Mandatory : No Calculator : None
Response Time : N.A Think Time : N.A Minimum Instruction Time : 0

Correct Marks : 5 Wrong Marks : 1

Question Key Details :

Key	Value
Comprehension	MCQ

A ने अपने दो मित्रों A और B, प्रत्येक से ₹ 10,000, 2 वर्षों के लिए उधार लिए। उसने 10% वार्षिक चक्रवृद्धि ब्याज की दर से B को और 11% वार्षिक साधारण ब्याज की दर से C को भुगतान करना तय किया। किसने 2 वर्ष के अंत में अधिक ब्याज लिया और कितना?

1. B, ₹20 अधिक
2. B, ₹80 अधिक
3. C, ₹100 अधिक
4. C, ₹120 अधिक

Options :

485584153669. 1
485584153670. 2
485584153671. 3
485584153672. 4

Question Number : 1189 Question Id : 48558438419 Question Type : MCQ Option Shuffling : No Is Question Mandatory : No Calculator : None
Response Time : N.A Think Time : N.A Minimum Instruction Time : 0

Correct Marks : 5 Wrong Marks : 1

Question Key Details :

Key	Value
Comprehension	MCQ

A's monthly salary was ₹40000 and he used to save ₹10000 per month. His salary increased by 25% and expenditure increased by 15%. By what percent his savings increased?

1. 40%
2. 50%
3. 55%
4. 60%

Options :

485584153673. 1
485584153674. 2
485584153675. 3
485584153676. 4

Question Number : 1189 Question Id : 48558438419 Question Type : MCQ Option Shuffling : No Is Question Mandatory : No Calculator : None Response Time : N.A Think Time : N.A Minimum Instruction Time : 0 Correct Marks : 5 Wrong Marks : 1

Question Key Details :

Key	Value
Comprehension	MCQ

A का मासिक वेतन ₹40,000 है और वह ₹10,000 प्रति माह बचाता है। उसका वेतन 25% बढ़ा और 15% खर्चा बढ़ा। कितने प्रतिशत उसकी बचत बढ़ी?

1. 40%
2. 50%
3. 55%
4. 60%

Options :

485584153673. 1
485584153674. 2
485584153675. 3
485584153676. 4

Question Number : 1190 Question Id : 48558438420 Question Type : MCQ Option Shuffling : No Is Question Mandatory : No Calculator : None Response Time : N.A Think Time : N.A Minimum Instruction Time : 0 Correct Marks : 5 Wrong Marks : 1

Question Key Details :

Key	Value
Comprehension	MCQ

If $a : b = \frac{2}{3} : \frac{1}{4}$ and $b : c = \frac{3}{4} : \frac{4}{5}$, then find a:b:c

1. 20:8:15
2. 20:16:15
3. 40:15:12
4. 40:15:16

Options :

485584153677. 1
485584153678. 2

485584153679. 3
485584153680. 4

Question Number : 1190 Question Id : 48558438420 Question Type : MCQ Option Shuffling : No Is Question Mandatory : No Calculator : None
Response Time : N.A Think Time : N.A Minimum Instruction Time : 0
Correct Marks : 5 Wrong Marks : 1

Question Key Details :

Key	Value
Comprehension	MCQ

यदि $a : b = \frac{2}{3} : \frac{1}{4}$ और $b : c = \frac{3}{4} : \frac{4}{5}$, तो a:b:c ज्ञात कीजिए।

1. 20:8:15
2. 20:16:15
3. 40:15:12
4. 40:15:16

Options :

485584153677. 1
485584153678. 2
485584153679. 3
485584153680. 4

Question Number : 1191 Question Id : 48558438421 Question Type : MCQ Option Shuffling : No Is Question Mandatory : No Calculator : None
Response Time : N.A Think Time : N.A Minimum Instruction Time : 0

Correct Marks : 5 Wrong Marks : 1

Question Key Details :

Key	Value
Comprehension	MCQ

Read the following statements and choose the correct conclusion that can be logically inferred from these statements.

Statements:

- A. All bulls are bells.
 - B. Some bulls are cows.
 - C. Some bells are chairs.
1. All bells are cow.
 2. Some cows are chairs.
 3. Some bells are bulls.
 4. All bells are bulls.

Options :

485584153681. 1
485584153682. 2
485584153683. 3
485584153684. 4

Question Number : 1191 Question Id : 48558438421 Question Type : MCQ Option Shuffling : No Is Question Mandatory : No Calculator : None
Response Time : N.A Think Time : N.A Minimum Instruction Time : 0

Correct Marks : 5 Wrong Marks : 1

Question Key Details :

Key	Value
Comprehension	MCQ

निम्नलिखित कथनों को पढ़िए और सही तार्किक निर्णय द्वारा चयन कीजिए

कथन:

- A. सभी बैल घंटियाँ हैं।
 - B. कुछ बैल गाय हैं।
 - C. कुछ घंटियाँ कुर्सियाँ हैं।
1. सभी घंटियाँ गाय हैं।
 2. कुछ गाय कुर्सियाँ हैं।
 3. कुछ घंटियाँ बैल हैं।
 4. सभी घंटियाँ बैल हैं।

Options :

- 485584153681. 1
- 485584153682. 2
- 485584153683. 3
- 485584153684. 4

Question Number : 1192 Question Id : 48558438422 Question Type : MCQ Option Shuffling : No Is Question Mandatory : No Calculator : None Response Time : N.A Think Time : N.A Minimum Instruction Time : 0

Correct Marks : 5 Wrong Marks : 1

Question Key Details :

Key	Value
Comprehension	MCQ

Six persons A,B,C,D,E and F are sitting in a row facing North. A and F are sitting at two extreme ends of the row, B is to the immediate right of A and D is 2nd left of F. What is the position of E with respect to A.

- A. E is to the right of A.
- B. E is to the left of C.

Which statement is sufficient to answer the question or not

1. If A alone sufficient only
2. If B alone sufficient only
3. If A and B needed together
4. If A and B both are not sufficient

Options :

- 485584153685. 1
- 485584153686. 2
- 485584153687. 3
- 485584153688. 4

Question Number : 1192 Question Id : 48558438422 Question Type : MCQ Option Shuffling : No Is Question Mandatory : No Calculator : None Response Time : N.A Think Time : N.A Minimum Instruction Time : 0

Correct Marks : 5 Wrong Marks : 1

Question Key Details :

Key	Value
Comprehension	MCQ

A,B,C,D,E और F छः लोग उत्तर दिशा की ओर मुख करके पंक्ति में बैठे हैं। A और F पंक्ति के सिरे पर बैठे हैं। B, A के दाईं ओर और D, F के बाईं ओर से दूसरा है। A के सापेक्ष E की स्थिति क्या है?

- A. E, A के दाईं ओर है।
- B. E, C के बाईं ओर है।

उत्तर ज्ञात करने के लिए कौन-सा कथन पर्याप्त है।

नीचे दिए गए विकल्पों में से सही उत्तर का चयन कीजिए:

- 1. यदि A अकेला पर्याप्त है
- 2. यदि B अकेला पर्याप्त है
- 3. यदि A और B दोनों ही आवश्यक हैं।
- 4. यदि A और B दोनों ही पर्याप्त नहीं हैं।

Options :

- 485584153685. 1
- 485584153686. 2
- 485584153687. 3
- 485584153688. 4

Question Number : 1193 Question Id : 48558438423 Question Type : MCQ Option Shuffling : No Is Question Mandatory : No Calculator : None Response Time : N.A Think Time : N.A Minimum Instruction Time : 0

Correct Marks : 5 Wrong Marks : 1

Question Key Details :

Key	Value
Comprehension	MCQ

If each of the letters in the English alphabet is assigned an even numerical value by giving A = 2, B = 4 and so on, then what would be the total value of the letters of word 'CUET' when similarly coded?

- 1. 78
- 2. 76
- 3. 98
- 4. 96

Options :

- 485584153689. 1
- 485584153690. 2
- 485584153691. 3
- 485584153692. 4

Question Number : 1193 Question Id : 48558438423 Question Type : MCQ Option Shuffling : No Is Question Mandatory : No Calculator : None Response Time : N.A Think Time : N.A Minimum Instruction Time : 0

Correct Marks : 5 Wrong Marks : 1

Question Key Details :

Key	Value
Comprehension	MCQ

यदि अंग्रेजी वर्णमाला के प्रत्येक वर्ण को सम संख्या से मानित किया जाए जैसे A=2, B=4 इत्यादि तो CUET शब्द के वर्णों का कुल मान क्या होगा यदि उन्हें समानरूप से कोड करें?

1. 78
2. 76
3. 98
4. 96

Options :


- 485584153689. 1
- 485584153690. 2
- 485584153691. 3
- 485584153692. 4

Question Number : 1194 Question Id : 48558438424 Question Type : MCQ Option Shuffling : No Is Question Mandatory : No Calculator : None Response Time : N.A Think Time : N.A Minimum Instruction Time : 0 Correct Marks : 5 Wrong Marks : 1 Question Key Details :

Key	Value
Comprehension	MCQ

Find out which of the following figures will complete the figure matrix:

problem figure



- 1.
- 2.
- 3.
- 4.

Options :

- 485584153693. 1
- 485584153694. 2
- 485584153695. 3
- 485584153696. 4

Question Number : 1194 Question Id : 48558438424 Question Type : MCQ Option Shuffling : No Is Question Mandatory : No Calculator : None

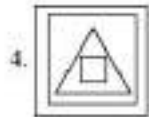

Response Time : N.A Think Time : N.A Minimum Instruction Time : 0

Correct Marks : 5 Wrong Marks : 1

Question Key Details :

Key	Value
Comprehension	MCQ

निम्नलिखित चित्रों में कौन सा चित्र दिए गए मैट्रिक्स को पूरा करता है?



Options :

485584153693. 1

485584153694. 2

485584153695. 3

485584153696. 4

Question Number : 1195 Question Id : 48558438425 Question Type : MCQ Option Shuffling : No Is Question Mandatory : No Calculator : None

Response Time : N.A Think Time : N.A Minimum Instruction Time : 0

Correct Marks : 5 Wrong Marks : 1

Question Key Details :

Key	Value
Comprehension	MCQ

In a certain code, FOOTBALL is written as UPPGMBMC. How is ALIGATOR written in that code?

1. HMJC SUPC

2. HMJA SUPA

3. HMJBSUPB

4. HMJDSUPD

Options :

485584153697. 1

485584153698. 2
485584153699. 3
485584153700. 4

Question Number : 1195 Question Id : 48558438425 Question Type : MCQ Option Shuffling : No Is Question Mandatory : No Calculator : None
Response Time : N.A Think Time : N.A Minimum Instruction Time : 0
Correct Marks : 5 Wrong Marks : 1
Question Key Details :

Key	Value
Comprehension	MCQ

किसी कोड में FOOTBALL को UPPGMBMC के रूप में लिखा गया। ALIGATOR को इसी प्रकार के कोड में किस प्रकार लिखेंगे?


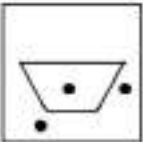
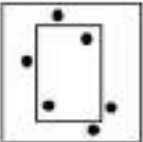

1. HMJC SUPC
2. HMJA SUPA
3. HMJBSUPB
4. HMIDSUPD

Options :
485584153697. 1
485584153698. 2
485584153699. 3
485584153700. 4

Question Number : 1196 Question Id : 48558438426 Question Type : MCQ Option Shuffling : No Is Question Mandatory : No Calculator : None
Response Time : N.A Think Time : N.A Minimum Instruction Time : 0
Correct Marks : 5 Wrong Marks : 1
Question Key Details :

Key	Value
Comprehension	MCQ

Choose the figure which is different from rest

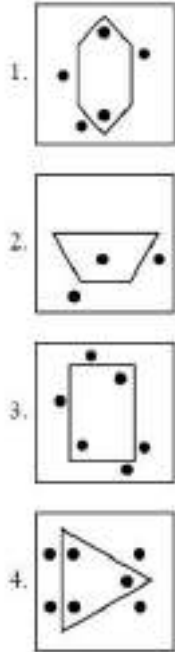
1. 
2. 
3. 
4. 

Options :
485584153701. 1
485584153702. 2
485584153703. 3

Question Number : 1196 Question Id : 48558438426 Question Type : MCQ Option Shuffling : No Is Question Mandatory : No Calculator : None
 Response Time : N.A Think Time : N.A Minimum Instruction Time : 0
 Correct Marks : 5 Wrong Marks : 1
 Question Key Details :

Key	Value
Comprehension	MCQ

उस चित्र का चयन कीजिए जो अन्य से भिन्न है।



Options :

485584153701. 1

485584153702. 2

485584153703. 3

485584153704. 4

Question Number : 1197 Question Id : 48558438427 Question Type : MCQ Option Shuffling : No Is Question Mandatory : No Calculator : None
 Response Time : N.A Think Time : N.A Minimum Instruction Time : 0
 Correct Marks : 5 Wrong Marks : 1
 Question Key Details :

Key	Value
Comprehension	MCQ

A, the son-in-law of B, is the brother-in-law of C who is the brother of D. How is C related to B.

1. Cousin

2. Son

3. Brother-in-law

4. Father

Options :

485584153705. 1

485584153706. 2

485584153707. 3

485584153708. 4

Question Number : 1197 Question Id : 48558438427 Question Type : MCQ Option Shuffling : No Is Question Mandatory : No Calculator : None
Response Time : N.A Think Time : N.A Minimum Instruction Time : 0

Correct Marks : 5 Wrong Marks : 1

Question Key Details :

Key	Value
Comprehension	MCQ

A. B का दामाद है और C का जीजा है जो D का भाई है। C का B के साथ क्या संबंध है।

1. चचेरा भाई
2. बेटा
3. साला
4. पिता

Options :

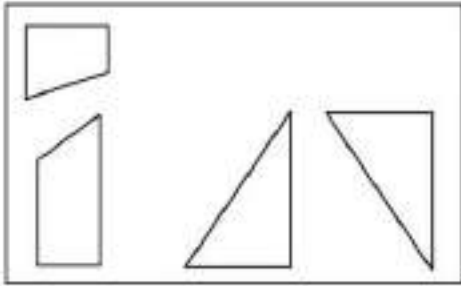
485584153705. 1
485584153706. 2
485584153707. 3
485584153708. 4

Question Number : 1198 Question Id : 48558438428 Question Type : MCQ Option Shuffling : No Is Question Mandatory : No Calculator : None
Response Time : N.A Think Time : N.A Minimum Instruction Time : 0

Correct Marks : 5 Wrong Marks : 1

Question Key Details :

Key	Value
Comprehension	MCQ



Which of the following includes all the four shapes given in the above figure :

- 1.
- 2.
- 3.
- 4.

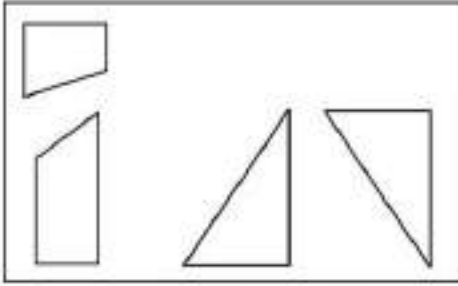
Options :

- 485584153709. 1
- 485584153710. 2
- 485584153711. 3
- 485584153712. 4

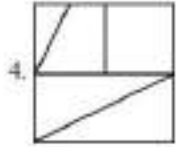
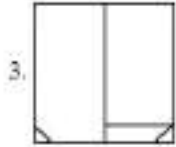
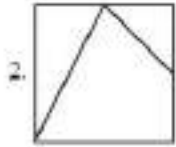
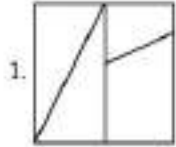
Question Number : 1198 Question Id : 48558438428 Question Type : MCQ Option Shuffling : No Is Question Mandatory : No Calculator : None
 Response Time : N.A Think Time : N.A Minimum Instruction Time : 0
 Correct Marks : 5 Wrong Marks : 1

Question Key Details :

Key	Value
Comprehension	MCQ



निम्नलिखित में से सही विकल्प चयन कीजिए जिसमें उपरोक्त चित्र की सभी 4 संरचनाएँ हो :



Options :

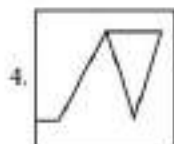
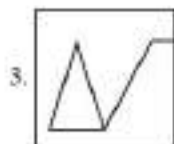
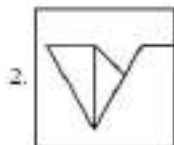
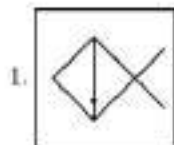
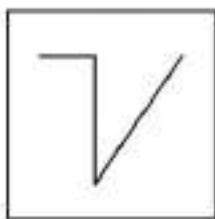
- 485584153709. 1
- 485584153710. 2
- 485584153711. 3
- 485584153712. 4

Question Number : 1199 Question Id : 48558438429 Question Type : MCQ Option Shuffling : No Is Question Mandatory : No Calculator : None
 Response Time : N.A Think Time : N.A Minimum Instruction Time : 0
 Correct Marks : 5 Wrong Marks : 1

Question Key Details :

Key	Value
Comprehension	MCQ

Find the figure 'X' which is embedded in the following alternative:



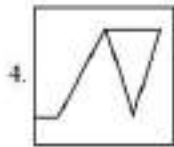
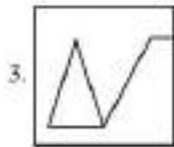
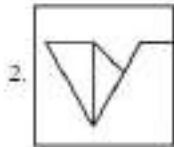
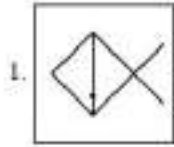
Options :

- 485584153713. 1
- 485584153714. 2
- 485584153715. 3
- 485584153716. 4

Question Number : 1199 Question Id : 48558438429 Question Type : MCQ Option Shuffling : No Is Question Mandatory : No Calculator : None Response Time : N.A Think Time : N.A Minimum Instruction Time : 0 Correct Marks : 5 Wrong Marks : 1 Question Key Details :

Key	Value
Comprehension	MCQ

निम्नलिखित विकल्पों में उस चित्र को देखिए जिसमें 'x' अर्न्तनिहित है:



Options :

485584153713. 1

485584153714. 2

485584153715. 3

485584153716. 4

Question Number : 1200 Question Id : 48558438430 Question Type : MCQ Option Shuffling : No Is Question Mandatory : No Calculator : None

Response Time : N.A Think Time : N.A Minimum Instruction Time : 0

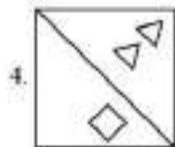
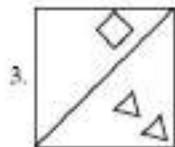
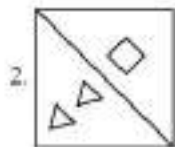
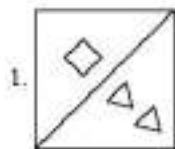
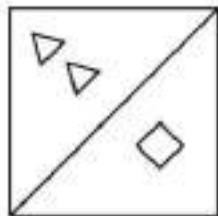
Correct Marks : 5 Wrong Marks : 1

Question Key Details :

Key	Value
Comprehension	MCQ

Choose the correct water image of the problem figure from the options:

Problem figure



Options :

- 485584153717. 1
- 485584153718. 2
- 485584153719. 3
- 485584153720. 4

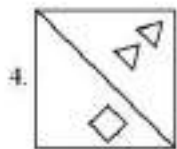
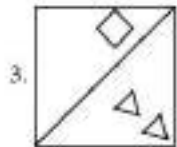
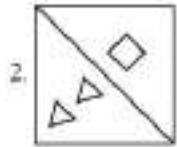
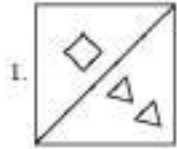
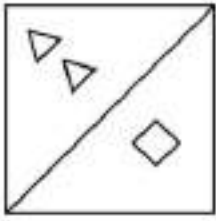
Question Number : 1200. Question Id : 48558438430 Question Type : MCQ Option Shuffling : No Is Question Mandatory : No Calculator : None Response Time : N.A Think Time : N.A Minimum Instruction Time : 0

Correct Marks : 5 Wrong Marks : 1

Question Key Details :

Key	Value
Comprehension	MCQ

दिए गए प्रश्न में सही जल-प्रतिबिंब का चयन कीजिए।



Options :

- 485584153717. 1
- 485584153718. 2
- 485584153719. 3
- 485584153720. 4

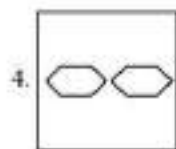
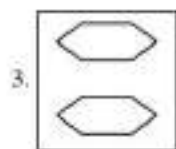
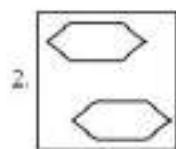
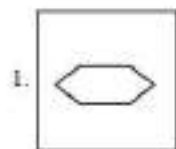
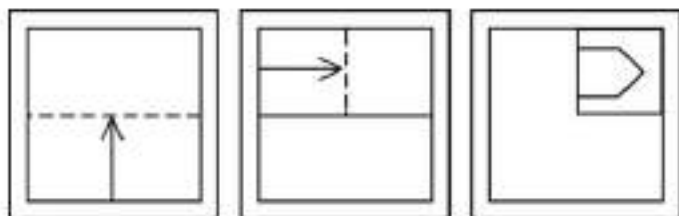
Question Number : 1201 Question Id : 48558438431 Question Type : MCQ Option Shuffling : No Is Question Mandatory : No Calculator : None Response Time : N.A Think Time : N.A Minimum Instruction Time : 0 Correct Marks : 5 Wrong Marks : 1

Question Key Details :

Key	Value
Comprehension	MCQ

A piece of paper is folded and a cut is made as shown below. From the given responses indicate how it will appear when the paper will be opened:

Problem figures:



Options :

- 485584153721. 1
- 485584153722. 2
- 485584153723. 3
- 485584153724. 4

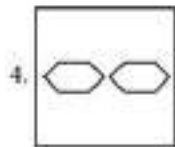
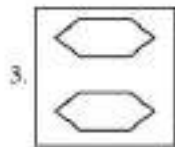
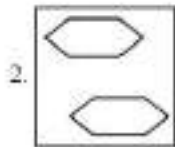
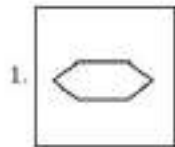
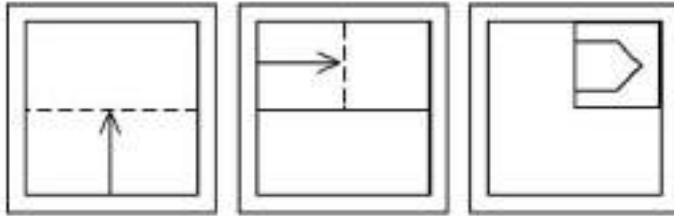
Question Number : 1201 Question Id : 48558438431 Question Type : MCQ Option Shuffling : No Is Question Mandatory : No Calculator : None
 Response Time : N.A Think Time : N.A Minimum Instruction Time : 0

Correct Marks : 5 Wrong Marks : 1

Question Key Details :

Key	Value
Comprehension	MCQ

एक कागज के टुकड़े को मोड़ा गया और एक कट बनाया गया है जैसा कि नीचे दिखाया गया है। दिए गए उत्तरों से इंगित करें कि जब कागज खोला जाएगा तो यह कैसा दिखाई देगा।



Options :

485584153721. 1

485584153722. 2

485584153723. 3

485584153724. 4

Question Number : 1202 Question Id : 48558438432 Question Type : MCQ Option Shuffling : No Is Question Mandatory : No Calculator : None Response Time : N.A Think Time : N.A Minimum Instruction Time : 0

Correct Marks : 5 Wrong Marks : 1

Question Key Details :

Key	Value
Comprehension	MCQ

Given below are two statements: one is labelled as Assertion A and the other is labelled as Reason R

Assertion A: Hot air balloon rises up in sky, because hot air is less dense than cold air.

Reason R: Volume of a gas decreases on heating.

In the light of the above statements, choose the **most appropriate** answer from the options given below

1. Both A and R are correct and R is the correct explanation of A
2. Both A and R are correct but R is NOT the correct explanation of A
3. A is correct but R is not correct
4. A is not correct but R is correct

Options :

485584153725. 1
485584153726. 2
485584153727. 3
485584153728. 4

Question Number : 1202 **Question Id :** 48558438432 **Question Type :** MCQ **Option Shuffling :** No **Is Question Mandatory :** No **Calculator :** None
Response Time : N.A **Think Time :** N.A **Minimum Instruction Time :** 0

Correct Marks : 5 **Wrong Marks :** 1

Question Key Details :

Key	Value
Comprehension	MCQ

नीचे दो कथन दिए गए हैं: एक अभिकथन (ASSERTION A) के रूप में लिखित है तो दूसरा उसके कारण (REASON R) के रूप में,

अभिकथन A : गर्म हवा का गुब्बारा ऊपर उठता है, क्योंकि ठंडी हवा की तुलना में गर्म हवा कम घन होती है।

कारण R : गर्म करने पर गैस का आयतन घटता है।

उपरोक्त कथन के अंतर्गत में, नीचे दिए गए विकल्पों में से सबसे उपयुक्त उत्तर का चयन कीजिए

1. A और R दोनों सही हैं और R, A की सही व्याख्या है
2. A और R दोनों सही हैं और R, A की सही व्याख्या नहीं है
3. A सही है लेकिन R गलत है
4. A गलत है लेकिन R सही है

Options :

485584153725. 1
485584153726. 2
485584153727. 3
485584153728. 4

Question Number : 1203 **Question Id :** 48558438433 **Question Type :** MCQ **Option Shuffling :** No **Is Question Mandatory :** No **Calculator :** None
Response Time : N.A **Think Time :** N.A **Minimum Instruction Time :** 0

Correct Marks : 5 **Wrong Marks :** 1

Question Key Details :

Key	Value
Comprehension	MCQ

Who scored the highest among P, Q, R, S and T?

Statement I : Q scored more than S, but not much as R.

Statement II : T scored more than R, but not more than P.

1. Statement I alone is sufficient, but statement II is not sufficient.
2. Statement II alone is sufficient, but statement I is not sufficient.
3. Both statements together are sufficient, but neither statement is alone sufficient.
4. Each statement alone is sufficient.

Options :

485584153729. 1

485584153730. 2

485584153731. 3

485584153732. 4

Question Number : 1203 Question Id : 48558438433 Question Type : MCQ Option Shuffling : No Is Question Mandatory : No Calculator : None Response Time : N.A Think Time : N.A Minimum Instruction Time : 0

Correct Marks : 5 Wrong Marks : 1

Question Key Details :

Key	Value
Comprehension	MCQ

नीचे दो कथन दिए गए हैं:

P, Q, R, S और T में किसने सर्वाधिक अंक प्राप्त किए :

कथन I : Q, S से ज्यादा अंक प्राप्त किए हैं लेकिन R के जितना नहीं।

कथन II : T, R से ज्यादा अंक प्राप्त किए हैं लेकिन P के जितना नहीं।

उपरोक्त कथन के अलावा में, नीचे दिए गए विकल्पों में से सबसे उपयुक्त उत्तर का चयन कीजिए।

1. कथन I अकेला पर्याप्त है, लेकिन कथन II पर्याप्त नहीं है।
2. कथन I पर्याप्त नहीं है, लेकिन कथन II अकेला पर्याप्त है।
3. दोनों कथन साथ पर्याप्त हैं, लेकिन अकेले कोई भी कथन पर्याप्त नहीं है।
4. प्रत्येक कथन अकेला पर्याप्त है।

Options :

485584153729. 1

485584153730. 2

485584153731. 3

485584153732. 4

Question Number : 1204 Question Id : 48558438434 Question Type : MCQ Option Shuffling : No Is Question Mandatory : No Calculator : None Response Time : N.A Think Time : N.A Minimum Instruction Time : 0

Correct Marks : 5 Wrong Marks : 1

Question Key Details :

Key	Value
Comprehension	MCQ

A flight from Delhi to Mumbai leaves every 5 hours. At the evening counter, it clarify that flight took off 25 minutes ago. If the time now is 10:40 am, what is the time for the next flight?

1. 3:15 pm
2. 3:15 am
3. 2:10 pm
4. 2:10 am

Options :

485584153733. 1
485584153734. 2
485584153735. 3
485584153736. 4

Question Number : 1204 Question Id : 48558438434 Question Type : MCQ Option Shuffling : No Is Question Mandatory : No Calculator : None Response Time : N.A Think Time : N.A Minimum Instruction Time : 0

Correct Marks : 5 Wrong Marks : 1

Question Key Details :

Key	Value
Comprehension	MCQ

दिल्ली से मुंबई के लिए फ्लाइट (उड़ान) हर 5 घंटे में कूटती है। पूछताछ काउंटर पर, यह स्पष्ट है कि उड़ान 25 मिनट पहले भरी है। यदि अभी समय 10:40 am है, तो अगली उड़ान का समय क्या होगा

1. 3:15 pm
2. 3:15 am
3. 2:10 pm
4. 2:10 am

Options :

485584153733. 1
485584153734. 2
485584153735. 3
485584153736. 4

Question Number : 1205 Question Id : 48558438435 Question Type : MCQ Option Shuffling : No Is Question Mandatory : No Calculator : None Response Time : N.A Think Time : N.A Minimum Instruction Time : 0

Correct Marks : 5 Wrong Marks : 1

Question Key Details :

Key	Value
Comprehension	MCQ

Given below are two statements: one is labelled as Assertion A and the other is labelled as Reason R

2, 6, 20, 42, 110, 156, 272-----

Assertion A: In the above number series the number is subtracted from the square of the same prime number.

Reason R: The difference between the two consecutive numbers of the series are multiple of even numbers only.

In the light of the above statements, choose the most appropriate answer from the options given below

1. Both A and R are correct and R is the correct explanation of A.
2. Both A and R are correct but R is NOT the correct explanation of A
3. A is correct but R is false
4. A is false but R is true

Options :

485584153737. 1
485584153738. 2
485584153739. 3
485584153740. 4

Question Number : 1205 Question Id : 48558438435 Question Type : MCQ Option Shuffling : No Is Question Mandatory : No Calculator : None Response Time : N.A Think Time : N.A Minimum Instruction Time : 0

Correct Marks : 5 Wrong Marks : 1

Question Key Details :

Key	Value
Comprehension	MCQ

नीचे दो कथन दिए गए हैं: एक अभिकथन (ASSERTION A) के रूप में लिखित है तो दूसरा उसके कारण (REASON R) के रूप में:

2, 6, 20, 42, 110, 156, 272-----

अभिकथन A : उपरोक्त संख्या श्रृंखला में, संख्या को उसी अभाज्य संख्या के वर्ग से घटाया जाता है।

कारण R : श्रृंखला की दो लगातार संख्याओं के बीच अंतर केवल सम संख्या का गुणक है।

उपरोक्त कथन के अंतर्गत में, नीचे दिए गए विकल्पों में से सबसे उपयुक्त उत्तर का चयन कीजिए

1. A और R दोनों सही हैं और R, A की सही व्याख्या है
2. A और R दोनों सही हैं और R, A की सही व्याख्या नहीं है
3. A सही है लेकिन R गलत है
4. A गलत है लेकिन R सही है

Options :

485584153737. 1
485584153738. 2
485584153739. 3
485584153740. 4

Question Number : 1206 Question Id : 48558438436 Question Type : MCQ Option Shuffling : No Is Question Mandatory : No Calculator : None Response Time : N.A Think Time : N.A Minimum Instruction Time : 0

Correct Marks : 5 Wrong Marks : 1

Question Key Details :

Key	Value
Comprehension	MCQ

Study the following information carefully and answer the question given below:

Following are the conditions for selecting Manager in an organisation

The candidate must

- I. be not less than 25 yr and not more than 30 yr as on 1.1.2020
- II. be graduate at least 65% marks.
- III. be ready to pay ₹70,000 as security deposit
- IV. have secured at least 50% marks in the selection exam.
- V. have secured at least 55% marks in personal interview.

In the case of a candidate who has satisfied all the above conditions except

- 1.. at (II) above, but has secured at least 70% marks in the post graduation, the case is referred to Director-personnel.
2. at (III) above, but is ready to sign a bond for one year, the case is to be referred to HOD-personnel.

Anrita was born on 15th July, 1992. She has secured 66% marks in graduation and 71% marks in post-graduation. She is ready to pay ₹70,000 as security deposit. She has also secured 50% marks in the selection Examination.

1. If the candidate is to be selected.
2. if the candidate is not be selected.
3. if the data provided is not adequate to take a decision.
4. if the case is to be referred to the Director-personnel.

Options :

485584153741. 1
485584153742. 2
485584153743. 3
485584153744. 4

Question Number : 1206 Question Id : 48558438436 Question Type : MCQ Option Shuffling : No Is Question Mandatory : No Calculator : None Response Time : N.A Think Time : N.A Minimum Instruction Time : 0

Correct Marks : 5 Wrong Marks : 1

Question Key Details :

Key	Value
Comprehension	MCQ

दिए गए सूचना को ध्यानपूर्वक पढ़िए और नीचे दिये गये प्रश्नों के उत्तर दीजिए

एक संगठन में प्रबंधक के चयन के लिए निम्नलिखित शर्तें हैं

उम्मीदवार

- I. 1.1.2020 को 25 वर्ष से कम नहीं होना चाहिए और 30 साल से ज्यादा नहीं होना चाहिए।
- II. कम से कम 65% के साथ स्नातक होना चाहिए।
- III. सुरक्षा जमा के रूप २70,000 का भुगतान करने को तैयार हो।
- IV. चयन परीक्षा में कम से कम 50% अंक प्राप्त किया हो।
- V. व्यक्तिगत साक्षात्कार में कम से कम 35% अंक प्राप्त होना चाहिए।

एक उम्मीदवार के मामले जो सभी शर्तों को पूर्ण करता है सिवाय,

1. उपरोक्त (II) में, लेकिन वह परास्तानक में कम से कम 70% अंक प्राप्त किया हो, मामले को निदेशक कार्मिक के पास भेजा जाएगा।
2. उपरोक्त (III) में, लेकिन एक वर्ष के लिए बॉन्ड पर हस्ताक्षर करने को तैयार है, मामले को एच ओ डी कार्मिक के पास भेजा जा जाएगा।

अंरीता का जन्म 15 जुलाई 1992 को हुआ था। उसने स्नातक में 60% अंक तथा परास्नातक में 77% अंक अर्जित किए। वह २70,000 सुरक्षा जमा के रूप में भुगतान के लिए तैयार है उसने चयन परीक्षा में 50% अंक भी अर्जित किए।

1. यदि उम्मीदवार को चयन करना चाहिए।
2. यदि उम्मीदवार को नहीं चयन करना चाहिए।
3. यदि जानकारी अँकड़ा निर्णय के लिए अपर्याप्त है।
4. यदि मामले को निदेशक कार्मिक का निर्दिष्ट करना चाहिए।

Options :

485584153741. 1
485584153742. 2
485584153743. 3
485584153744. 4

Question Number : 1207 Question Id : 48558438437 Question Type : MCQ Option Shuffling : No Is Question Mandatory : No Calculator : None Response Time : N.A Think Time : N.A Minimum Instruction Time : 0

Correct Marks : 5 Wrong Marks : 1

Question Key Details :

Key	Value
Comprehension	MCQ

Potato: Carrot: Radish

1. Spinach
2. Sesame
3. Tomato
4. Groundnut

Options :

485584153745. 1
485584153746. 2
485584153747. 3
485584153748. 4

Question Number : 1207 Question Id : 48558438437 Question Type : MCQ Option Shuffling : No Is Question Mandatory : No Calculator : None Response Time : N.A Think Time : N.A Minimum Instruction Time : 0

Correct Marks : 5 Wrong Marks : 1

Question Key Details :

Key	Value
Comprehension	MCQ

आलू: गाजर: मूली

1. पालक
2. तिल
3. टमाटर
4. मूंगफली

Options :

485584153745. 1

485584153746. 2

485584153747. 3

485584153748. 4

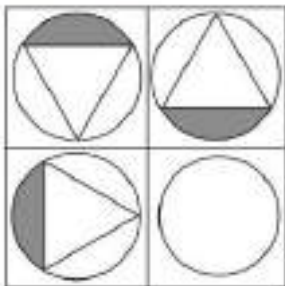
Question Number : 1208 Question Id : 48558438438 Question Type : MCQ Option Shuffling : No Is Question Mandatory : No Calculator : None
Response Time : N.A Think Time : N.A Minimum Instruction Time : 0

Correct Marks : 5 Wrong Marks : 1

Question Key Details :

Key	Value
Comprehension	MCQ

Problem figure



- 1.
- 2.
- 3.
- 4.

Options :

485584153749. 1

485584153750. 2

485584153751. 3

485584153752. 4

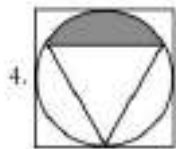
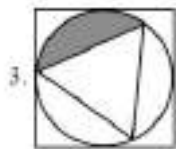
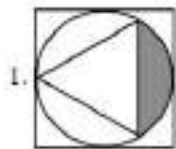
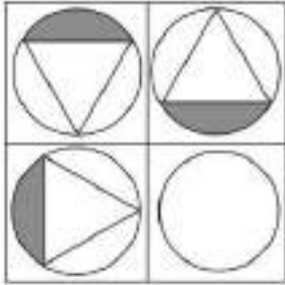
Question Number : 1208 Question Id : 48558438438 Question Type : MCQ Option Shuffling : No Is Question Mandatory : No Calculator : None Response Time : N.A Think Time : N.A Minimum Instruction Time : 0

Correct Marks : 5 Wrong Marks : 1

Question Key Details :

Key	Value
Comprehension	MCQ

समस्या आकृति



Options :

485584153749. 1

485584153750. 2

485584153751. 3

485584153752. 4

Question Number : 1209 Question Id : 48558438439 Question Type : MCQ Option Shuffling : No Is Question Mandatory : No Calculator : None Response Time : N.A Think Time : N.A Minimum Instruction Time : 0

Correct Marks : 5 Wrong Marks : 1

Question Key Details :

Key	Value
Comprehension	MCQ

Choose the right answer on the basis of the following statement and conclusions.

Statement : It is almost impossible to survive and prosper in their world without sacrificing ethics and morality.

Conclusion I : World appreciate some concepts but may not uphold it.

II : Concept or ethics and morality are not practicable in life.

1. Only I follows
2. Only II follows
3. Both I and II follows
4. Neither I nor II follows

Options :

485584153753. 1
485584153754. 2
485584153755. 3
485584153756. 4

Question Number : 1209 Question Id : 48558438439 Question Type : MCQ Option Shuffling : No Is Question Mandatory : No Calculator : None
Response Time : N.A Think Time : N.A Minimum Instruction Time : 0
Correct Marks : 5 Wrong Marks : 1
Question Key Details :

Key	Value
Comprehension	MCQ

दिए गए कथन और निष्कर्ष के आधार पर सही उत्तर का चयन कीजिए:

कथन : आचार और नैतिकता का त्याग किए बिना विश्व में जीवित रहना और समृद्ध होना लगभग असंभव है।

निष्कर्ष I : विश्व कुछ अवधारणाओं की सराहना करता है, लेकिन इसे कायम नहीं रख सकता है।

II : आचार और नैतिकता की अवधारणा जीवन में व्यवहारिक नहीं है।

1. केवल I अनुसरण
2. केवल II अनुसरण
3. I और II दोनों अनुसरण
4. न तो I न तो II अनुसरण

Options :

485584153753. 1
485584153754. 2
485584153755. 3
485584153756. 4

Question Number : 1210 Question Id : 48558438440 Question Type : MCQ Option Shuffling : No Is Question Mandatory : No Calculator : None
Response Time : N.A Think Time : N.A Minimum Instruction Time : 0
Correct Marks : 5 Wrong Marks : 1
Question Key Details :

Key	Value
Comprehension	MCQ

Statement: "Do not lean out of the moving train". - A warning in the railway compartment.

Assumptions:

- I. Such warning will be some effect.
 - II. Leaning out of the moving train is dangerous.
 - III. It is duty of railway authorities to take care of passengers safety
1. Only I and II are implicit.
 2. Only II and III implicit.
 3. Only one (I) and III are implicit.
 4. I, II, III implicit

Options :

485584153757. 1
485584153758. 2
485584153759. 3
485584153760. 4

Question Number : 1210 **Question Id :** 48558438440 **Question Type :** MCQ **Option Shuffling :** No **Is Question Mandatory :** No **Calculator :** None
Response Time : N.A **Think Time :** N.A **Minimum Instruction Time :** 0

Correct Marks : 5 **Wrong Marks :** 1

Question Key Details :

Key	Value
Comprehension	MCQ

कथन: चलती ट्रेन से बाहर न झुके. रेल के बोगी में चेतावनी

पूर्वधारणाएं:

- I. ऐसी चेतावनी का कुछ असर होगा
 - II. चलती ट्रेन में बाहर की तरफ झुकना खतरनाक है
 - III. यह रेलवे अधिकारियों का कर्तव्य है कि यात्री की सुरक्षा का ध्यान रखें
1. केवल I और II दोनों अंतर्निहित हैं
 2. केवल II और III दोनों अंतर्निहित हैं
 3. केवल I और III दोनों अंतर्निहित हैं
 4. I, II और III अंतर्निहित हैं

Options :

485584153757. 1
485584153758. 2
485584153759. 3
485584153760. 4

Question Number : 1211 **Question Id :** 48558438441 **Question Type :** MCQ **Option Shuffling :** No **Is Question Mandatory :** No **Calculator :** None
Response Time : N.A **Think Time :** N.A **Minimum Instruction Time :** 0

Correct Marks : 5 **Wrong Marks :** 1

Question Key Details :

Key	Value
Comprehension	MCQ

How many notes are in the Hindustani Classical music?

1. 5
2. 6
3. 7
4. 8

Options :

485584153761. 1
485584153762. 2
485584153763. 3
485584153764. 4

Question Number : 1211 Question Id : 48558438441 Question Type : MCQ Option Shuffling : No Is Question Mandatory : No Calculator : None Response Time : N.A Think Time : N.A Minimum Instruction Time : 0 Correct Marks : 5 Wrong Marks : 1

Question Key Details :

Key	Value
Comprehension	MCQ

हिन्दुस्तानी शास्त्रीय संगीत में कितने स्वर होते हैं?

1. 5
2. 6
3. 7
4. 8

Options :

485584153761. 1
485584153762. 2
485584153763. 3
485584153764. 4

Question Number : 1212 Question Id : 48558438442 Question Type : MCQ Option Shuffling : No Is Question Mandatory : No Calculator : None Response Time : N.A Think Time : N.A Minimum Instruction Time : 0 Correct Marks : 5 Wrong Marks : 1

Question Key Details :

Key	Value
Comprehension	MCQ

The temple 'Nageshwar' was constructed by?

1. TRAIKUTAKAS
2. RASHTRAKUTAS
3. PRATI HARAS
4. PANDYAS

Options :

485584153765. 1
485584153766. 2
485584153767. 3
485584153768. 4

Question Number : 1212 Question Id : 48558438442 Question Type : MCQ Option Shuffling : No Is Question Mandatory : No Calculator : None
Response Time : N.A Think Time : N.A Minimum Instruction Time : 0

Correct Marks : 5 Wrong Marks : 1

Question Key Details :

Key	Value
Comprehension	MCQ

नागेश्वर मंदिर किसके द्वारा बनवाया गया था?

1. त्रिकुटाकस
2. राष्ट्रकूट
3. प्रतिहार
4. पांड्या

Options :

485584153765. 1
485584153766. 2
485584153767. 3
485584153768. 4

Question Number : 1213 Question Id : 48558438443 Question Type : MCQ Option Shuffling : No Is Question Mandatory : No Calculator : None
Response Time : N.A Think Time : N.A Minimum Instruction Time : 0

Correct Marks : 5 Wrong Marks : 1

Question Key Details :

Key	Value
Comprehension	MCQ

What was the Early-Medieval period?

1. 650- 1206
2. 750- 1306
3. 500- 1000
4. 750- 1206

Options :

485584153769. 1
485584153770. 2
485584153771. 3
485584153772. 4

Question Number : 1213 Question Id : 48558438443 Question Type : MCQ Option Shuffling : No Is Question Mandatory : No Calculator : None
Response Time : N.A Think Time : N.A Minimum Instruction Time : 0

Correct Marks : 5 Wrong Marks : 1

Question Key Details :

Key	Value
Comprehension	MCQ

प्रारंभिक मध्यकाल अवधि क्या थी-

1. 650- 1206
2. 750- 1306
3. 500- 1000
4. 750- 1206

Options :

- 485584153769. 1
- 485584153770. 2
- 485584153771. 3
- 485584153772. 4

Question Number : 1214 Question Id : 48558438444 Question Type : MCQ Option Shuffling : No Is Question Mandatory : No Calculator : None
Response Time : N.A Think Time : N.A Minimum Instruction Time : 0
Correct Marks : 5 Wrong Marks : 1

Question Key Details :

Key	Value
Comprehension	MCQ

The second Maratha War was fought from-

- 1. 1775-1782 A.D.
- 2. 1785- 1790 A.D.
- 3. 1803- 1806 A.D.
- 4. 1817- 1818 A.D.

Options :

- 485584153773. 1
- 485584153774. 2
- 485584153775. 3
- 485584153776. 4

Question Number : 1214 Question Id : 48558438444 Question Type : MCQ Option Shuffling : No Is Question Mandatory : No Calculator : None
Response Time : N.A Think Time : N.A Minimum Instruction Time : 0
Correct Marks : 5 Wrong Marks : 1

Question Key Details :

Key	Value
Comprehension	MCQ

_____ द्वारा मराठा युद्ध कब से लड़ा गया था

- 1. 1775-1782 ईस्वी
- 2. 1785- 1790 ईस्वी
- 3. 1803- 1806 ईस्वी
- 4. 1817- 1818 ईस्वी

Options :

- 485584153773. 1
- 485584153774. 2
- 485584153775. 3
- 485584153776. 4

Question Number : 1215 Question Id : 48558438445 Question Type : MCQ Option Shuffling : No Is Question Mandatory : No Calculator : None
Response Time : N.A Think Time : N.A Minimum Instruction Time : 0
Correct Marks : 5 Wrong Marks : 1

Question Key Details :

Key	Value
Comprehension	MCQ

1 atm (Atmospheric Pressure) is equal to:

1. $1.01 \times 10^5 \text{ N/m}^2$
2. $1.01 \times 10^{10} \text{ N/m}^2$
3. $6.67 \times 10^5 \text{ N/m}^2$
4. 10^7 N/m^2

Options :

485584153777. 1
485584153778. 2
485584153779. 3
485584153780. 4

Question Number : 1215 Question Id : 48558438445 Question Type : MCQ Option Shuffling : No Is Question Mandatory : No Calculator : None Response Time : N.A Think Time : N.A Minimum Instruction Time : 0 Correct Marks : 5 Wrong Marks : 1

Question Key Details :

Key	Value
Comprehension	MCQ

1 एटीएम (वायुमंडलीय दाब) के समतुल्य है

1. $1.01 \times 10^5 \text{ N/m}^2$
2. $1.01 \times 10^{10} \text{ N/m}^2$
3. $6.67 \times 10^5 \text{ N/m}^2$
4. 10^7 N/m^2

Options :

485584153777. 1
485584153778. 2
485584153779. 3
485584153780. 4

Question Number : 1216 Question Id : 48558438446 Question Type : MCQ Option Shuffling : No Is Question Mandatory : No Calculator : None Response Time : N.A Think Time : N.A Minimum Instruction Time : 0

Correct Marks : 5 Wrong Marks : 1

Question Key Details :

Key	Value
Comprehension	MCQ

Which method will you use to separate Methyl alcohol to acetone?

1. Crystallisation
2. Evaporation
3. Filtration
4. Fractional distillation

Options :

485584153781. 1
485584153782. 2
485584153783. 3
485584153784. 4

Question Number : 1216 Question Id : 48558438446 Question Type : MCQ Option Shuffling : No Is Question Mandatory : No Calculator : None
Response Time : N.A Think Time : N.A Minimum Instruction Time : 0

Correct Marks : 5 Wrong Marks : 1

Question Key Details :

Key	Value
Comprehension	MCQ

मेथिल एक्टोहल से एसिटोन को अलग करने के लिए आप कौन से प्रक्रिया का उपयोग करेंगे?

1. क्रिस्टलीकरण
2. वाष्पीकरण
3. निस्पंदन (छनन)
4. प्रभाजी आसवन

Options :

- 485584153781. 1
- 485584153782. 2
- 485584153783. 3
- 485584153784. 4

Question Number : 1217 Question Id : 48558438447 Question Type : MCQ Option Shuffling : No Is Question Mandatory : No Calculator : None
Response Time : N.A Think Time : N.A Minimum Instruction Time : 0

Correct Marks : 5 Wrong Marks : 1

Question Key Details :

Key	Value
Comprehension	MCQ

Which of the following is a type of Complex permanent tissue

1. Parenchyma
2. Collenchyma
3. Sclerenchyma
4. Phloem

Options :

- 485584153785. 1
- 485584153786. 2
- 485584153787. 3
- 485584153788. 4

Question Number : 1217 Question Id : 48558438447 Question Type : MCQ Option Shuffling : No Is Question Mandatory : No Calculator : None
Response Time : N.A Think Time : N.A Minimum Instruction Time : 0

Correct Marks : 5 Wrong Marks : 1

Question Key Details :

Key	Value
Comprehension	MCQ

निम्नलिखित में से कौन-सा एक जटिल स्थायी उत्तक का प्रकार है?

1. पेरेन्काइमा
2. कोलेनकाइमा
3. स्कलेरेन्काइमा
4. फ्लोइड

Options :

485584153785. 1
485584153786. 2
485584153787. 3
485584153788. 4

Question Number : 1218 Question Id : 48558438448 Question Type : MCQ Option Shuffling : No Is Question Mandatory : No Calculator : None Response Time : N.A Think Time : N.A Minimum Instruction Time : 0

Correct Marks : 5 Wrong Marks : 1

Question Key Details :

Key	Value
Comprehension	MCQ

Who among the following invented the Universal Serial Bus (USB)?

1. Sundaram Pichai
2. Ajay V. Bhatt
3. Pranjal Mistri
4. Satyam Nadela

Options :

485584153789. 1
485584153790. 2
485584153791. 3
485584153792. 4

Question Number : 1218 Question Id : 48558438448 Question Type : MCQ Option Shuffling : No Is Question Mandatory : No Calculator : None Response Time : N.A Think Time : N.A Minimum Instruction Time : 0

Correct Marks : 5 Wrong Marks : 1

Question Key Details :

Key	Value
Comprehension	MCQ

निम्नलिखित में से किसने यूनिवर्सल सीरियल बस (BUS) की खोज की?

1. सुंदरम पिचाई
2. अजय वी. भट्ट
3. प्रनल मिस्त्री
4. सत्यम नडेला

Options :

485584153789. 1
485584153790. 2
485584153791. 3
485584153792. 4

Question Number : 1219 Question Id : 48558438449 Question Type : MCQ Option Shuffling : No Is Question Mandatory : No Calculator : None
Response Time : N.A Think Time : N.A Minimum Instruction Time : 0
Correct Marks : 5 Wrong Marks : 1

Question Key Details :

Key	Value
Comprehension	MCQ

Which country will host National Delphic Games for Arts and cultures in 2023?

1. France
2. India
3. USA
4. China

Options :

485584153793. 1
485584153794. 2
485584153795. 3
485584153796. 4

Question Number : 1219 Question Id : 48558438449 Question Type : MCQ Option Shuffling : No Is Question Mandatory : No Calculator : None
Response Time : N.A Think Time : N.A Minimum Instruction Time : 0
Correct Marks : 5 Wrong Marks : 1

Question Key Details :

Key	Value
Comprehension	MCQ

2023 में कला और संस्कृति के लिए राष्ट्रीय डेलफिक खेल कौन सा देश मेजबानी करेगा

1. फ्रांस
2. भारत
3. यू. एस. ए
4. चीन

Options :

485584153793. 1
485584153794. 2
485584153795. 3
485584153796. 4

Question Number : 1220 Question Id : 48558438450 Question Type : MCQ Option Shuffling : No Is Question Mandatory : No Calculator : None
Response Time : N.A Think Time : N.A Minimum Instruction Time : 0
Correct Marks : 5 Wrong Marks : 1

Question Key Details :

Key	Value
Comprehension	MCQ

What is estimated GDP growth of India In 2022-23 as per NSO advances estimates?

1. 6%
2. 7%
3. 8%
4. 9%

Options :

485584153797. 1
485584153798. 2
485584153799. 3
485584153800. 4

Question Number : 1220 Question Id : 48558438450 Question Type : MCQ Option Shuffling : No Is Question Mandatory : No Calculator : None Response Time : N.A Think Time : N.A Minimum Instruction Time : 0

Correct Marks : 5 Wrong Marks : 1

Question Key Details :

Key	Value
Comprehension	MCQ

एन. एस. ओ के पहला अग्रिम अनुमान के अनुसार, 2022-23 में भारत की जी. डी. पी वृद्धि का क्या अनुमान है?

1. 6%
2. 7%
3. 8%
4. 9%

Options :

485584153797. 1
485584153798. 2
485584153799. 3
485584153800. 4

Question Number : 1221 Question Id : 48558438451 Question Type : MCQ Option Shuffling : No Is Question Mandatory : No Calculator : None Response Time : N.A Think Time : N.A Minimum Instruction Time : 0

Correct Marks : 5 Wrong Marks : 1

Question Key Details :

Key	Value
Comprehension	MCQ

Where is the World Cup Cricket 2023 scheduled to be held?

1. England
2. South Africa
3. Australia
4. India

Options :

485584153801. 1
485584153802. 2
485584153803. 3
485584153804. 4

Question Number : 1221 Question Id : 48558438451 Question Type : MCQ Option Shuffling : No Is Question Mandatory : No Calculator : None

Response Time : N.A Think Time : N.A Minimum Instruction Time : 0

Correct Marks : 5 Wrong Marks : 1

Question Key Details :

Key	Value
Comprehension	MCQ

विश्व कप क्रिकेट 2023, को कहीं आयोजित किया जाना निर्धारित है

1. इंग्लैंड
2. दक्षिण अफ्रिका
3. आस्ट्रेलिया
4. भारत

Options :

485584153801. 1

485584153802. 2

485584153803. 3

485584153804. 4

Question Number : 1222 Question Id : 48558438452 Question Type : MCQ Option Shuffling : No Is Question Mandatory : No Calculator : None

Response Time : N.A Think Time : N.A Minimum Instruction Time : 0

Correct Marks : 5 Wrong Marks : 1

Question Key Details :

Key	Value
Comprehension	MCQ

ISRO chairperson S. Somnath has announced in May 2022 to launch Venus Mission by:

1. 2023
2. 2024
3. 2025
4. 2027

Options :

485584153805. 1

485584153806. 2

485584153807. 3

485584153808. 4

Question Number : 1222 Question Id : 48558438452 Question Type : MCQ Option Shuffling : No Is Question Mandatory : No Calculator : None

Response Time : N.A Think Time : N.A Minimum Instruction Time : 0

Correct Marks : 5 Wrong Marks : 1

Question Key Details :

Key	Value
Comprehension	MCQ

इसरो अध्यक्ष एस. सोमनाथ मई 2022 में शुक्र मिशन को कब लॉन्च करने की घोषणा की

1. 2023
2. 2024
3. 2025
4. 2027

Options :

- 485584153805. 1
- 485584153806. 2
- 485584153807. 3
- 485584153808. 4

Question Number : 1223 Question Id : 48558438453 Question Type : MCQ Option Shuffling : No Is Question Mandatory : No Calculator : None
Response Time : N.A Think Time : N.A Minimum Instruction Time : 0

Correct Marks : 5 Wrong Marks : 1

Question Key Details :

Key	Value
Comprehension	MCQ

Which of the following countries share longest border (lengthwise)with India?

1. Pakistan
2. Bangladesh
3. China
4. Nepal

Options :

- 485584153809. 1
- 485584153810. 2
- 485584153811. 3
- 485584153812. 4

Question Number : 1223 Question Id : 48558438453 Question Type : MCQ Option Shuffling : No Is Question Mandatory : No Calculator : None

Response Time : N.A Think Time : N.A Minimum Instruction Time : 0

Correct Marks : 5 Wrong Marks : 1

Question Key Details :

Key	Value
Comprehension	MCQ

निम्नलिखित में से भारत के साथ (लंबाई में) सबसे लंबी सीमा साझा करने वाला देश है

1. पाकिस्तान
2. बांग्लादेश
3. चीन
4. नेपाल

Options :

- 485584153809. 1
- 485584153810. 2
- 485584153811. 3
- 485584153812. 4

Question Number : 1224 Question Id : 48558438454 Question Type : MCQ Option Shuffling : No Is Question Mandatory : No Calculator : None

Response Time : N.A Think Time : N.A Minimum Instruction Time : 0

Correct Marks : 5 Wrong Marks : 1

Question Key Details :

Key	Value
Comprehension	MCQ

Which of the following states does not share boundary with Bhutan?

1. West Bengal
2. Assam
3. Sikkim
4. Meghalaya

Options :

485584153813. 1
485584153814. 2
485584153815. 3
485584153816. 4

Question Number : 1224 Question Id : 48558438454 Question Type : MCQ Option Shuffling : No Is Question Mandatory : No Calculator : None Response Time : N.A Think Time : N.A Minimum Instruction Time : 0 Correct Marks : 5 Wrong Marks : 1

Question Key Details :

Key	Value
Comprehension	MCQ

निम्नलिखित राज्यों में से कौन-सा भूटान के साथ सीमा साझा नहीं करता है?

1. पश्चिम बंगाल
2. असम
3. सिक्किम
4. मेघालय

Options :

485584153813. 1
485584153814. 2
485584153815. 3
485584153816. 4

Question Number : 1225 Question Id : 48558438455 Question Type : MCQ Option Shuffling : No Is Question Mandatory : No Calculator : None Response Time : N.A Think Time : N.A Minimum Instruction Time : 0 Correct Marks : 5 Wrong Marks : 1

Question Key Details :

Key	Value
Comprehension	MCQ

The Hindi term for Geography is 'BHUGOL'. It was first coined by which famous ancient Indian geographer?

1. Varah Mihir
2. Brahmagupta
3. Aryabhata
4. Bhaskracharya

Options :

485584153817. 1
485584153818. 2
485584153819. 3
485584153820. 4

Question Number : 1225 Question Id : 48558438455 Question Type : MCQ Option Shuffling : No Is Question Mandatory : No Calculator : None
Response Time : N.A Think Time : N.A Minimum Instruction Time : 0

Correct Marks : 5 Wrong Marks : 1

Question Key Details :

Key	Value
Comprehension	MCQ

ज्योग्राफी के लिए 'भूगोल' हिन्दी शब्द है। यह किस प्राचीन भारतीय भूगोलवेत्ता के द्वारा पहली बार प्रतिपादित किया गया?

1. वराहमिहिर
2. ब्रह्मगुप्त
3. आर्यभट्ट
4. भास्कराचार्य

Options :

485584153817. 1
485584153818. 2
485584153819. 3
485584153820. 4

Question Number : 1226 Question Id : 48558438456 Question Type : MCQ Option Shuffling : No Is Question Mandatory : No Calculator : None
Response Time : N.A Think Time : N.A Minimum Instruction Time : 0

Correct Marks : 5 Wrong Marks : 1

Question Key Details :

Key	Value
Comprehension	MCQ

As per the data (2019-20), which country is the largest producer of milk:

1. Denmark
2. China
3. USA
4. India

Options :

485584153821. 1
485584153822. 2
485584153823. 3
485584153824. 4

Question Number : 1226 Question Id : 48558438456 Question Type : MCQ Option Shuffling : No Is Question Mandatory : No Calculator : None
Response Time : N.A Think Time : N.A Minimum Instruction Time : 0

Correct Marks : 5 Wrong Marks : 1

Question Key Details :

Key	Value
Comprehension	MCQ

आकड़ा (2019-20) के अनुसार, कौन सा देश दूध उत्पादन में सबसे बड़ा है

1. डेनमार्क
2. चीन
3. यू.एस.ए
4. भारत

Options :

485584153821. 1
485584153822. 2
485584153823. 3
485584153824. 4

Question Number : 1227 Question Id : 48558438457 Question Type : MCQ Option Shuffling : No Is Question Mandatory : No Calculator : None Response Time : N.A Think Time : N.A Minimum Instruction Time : 0 Correct Marks : 5 Wrong Marks : 1

Question Key Details :

Key	Value
Comprehension	MCQ

Given below are two statements:

Statement I: According to the World Inequality Report 2022, in India the top 1% of the population hold more than one-fifth of the total income in 2021 and bottom half just 13%

statement II: According to the World Inequality Report 2022, in India female labour income share is equal to 18% which is significantly lower than the average in Asia.

In the light of above statements, choose the most appropriate answer from the options given below:

1. Both Statement I and Statement II are true
2. Both Statement I and Statement II are false
3. Statement I is true but Statement II is false
4. Statement I is false but Statement II is true

Options :

485584153825. 1
485584153826. 2
485584153827. 3
485584153828. 4

Question Number : 1227 Question Id : 48558438457 Question Type : MCQ Option Shuffling : No Is Question Mandatory : No Calculator : None Response Time : N.A Think Time : N.A Minimum Instruction Time : 0 Correct Marks : 5 Wrong Marks : 1

Question Key Details :

Key	Value
Comprehension	MCQ

नीचे दो कथन दिए गए हैं:

कथन I: विश्व असमानता रिपोर्ट 2022 के अनुसार, भारत में जनसंख्या का शीर्ष 1%, 2021 में कुल राष्ट्रीय आय के एक-पांचवे से अधिक रखता है और निम्नतमस्तर का आधा केवल 13% रखता है।

कथन II: विश्व असमानता रिपोर्ट 2022 के अनुसार, भारत में महिला श्रम की आय का हिस्सा 18% के बराबर है जोकि एशिया में सार्थक रूप से औसत से कम है।

उपरोक्त कथन के अलोक में, नीचे दिए गए विकल्पों में से सबसे उपयुक्त उत्तर का चयन कीजिए

1. कथन I और II दोनों सत्य हैं
2. कथन I और II दोनों असत्य हैं
3. कथन I सत्य है, लेकिन कथन II असत्य है
4. कथन I असत्य है, लेकिन कथन II सत्य है

Options :

- 485584153825. 1
- 485584153826. 2
- 485584153827. 3
- 485584153828. 4

Question Number : 1228 **Question Id :** 48558438458 **Question Type :** MCQ **Option Shuffling :** No **Is Question Mandatory :** No **Calculator :** None **Response Time :** N.A **Think Time :** N.A **Minimum Instruction Time :** 0

Correct Marks : 5 **Wrong Marks :** 1

Question Key Details :

Key	Value
Comprehension	MCQ

India's overall exports touched all-time high of _____ in April-March 2021-22, jumping 34.50% over the same period last year.

1. USD 599 Billion
2. USD 400.35 Billion
3. USD 669.65 Billion
4. USD 742.25 Billion

Options :

- 485584153829. 1
- 485584153830. 2
- 485584153831. 3
- 485584153832. 4

Question Number : 1228 **Question Id :** 48558438458 **Question Type :** MCQ **Option Shuffling :** No **Is Question Mandatory :** No **Calculator :** None **Response Time :** N.A **Think Time :** N.A **Minimum Instruction Time :** 0

Correct Marks : 5 **Wrong Marks :** 1

Question Key Details :

Key	Value
Comprehension	MCQ

अप्रैल- मार्च 2021-22 में भारत का कुल निर्यात-----के उच्च स्तर पर पहुँच गया जो पिछले वर्ष की समान अवधि की तुलना में 34.50% अधिक है।

1. 599 बिलियन अमेरिकी डॉलर
2. 400.35 बिलियन अमेरिकी डॉलर
3. 669.65 बिलियन अमेरिकी डॉलर
4. 742.25 बिलियन अमेरिकी डॉलर

Options :

485584153829. 1
485584153830. 2
485584153831. 3
485584153832. 4

Question Number : 1229 Question Id : 48558438459 Question Type : MCQ Option Shuffling : No Is Question Mandatory : No Calculator : None Response Time : N.A Think Time : N.A Minimum Instruction Time : 0 Correct Marks : 5 Wrong Marks : 1

Question Key Details :

Key	Value
Comprehension	MCQ

The Green Revolution in India was an introduction of high yielding varieties (HYV) of seed for

1. Millet
2. Pulse
3. Wheat
4. Oil seed

Options :

485584153833. 1
485584153834. 2
485584153835. 3
485584153836. 4

Question Number : 1229 Question Id : 48558438459 Question Type : MCQ Option Shuffling : No Is Question Mandatory : No Calculator : None Response Time : N.A Think Time : N.A Minimum Instruction Time : 0 Correct Marks : 5 Wrong Marks : 1

Question Key Details :

Key	Value
Comprehension	MCQ

भारत में हरित क्रांति _____ के बीज की उच्च पैदावर किस्मों (HYV) का परिचय थी

1. बाजरा
2. दाल
3. गेहूँ
4. तेल बीज

Options :

485584153833. 1
485584153834. 2
485584153835. 3

Question Number : 1230 Question Id : 48558438460 Question Type : MCQ Option Shuffling : No Is Question Mandatory : No Calculator : None
Response Time : N.A Think Time : N.A Minimum Instruction Time : 0

Correct Marks : 5 Wrong Marks : 1

Question Key Details :

Key	Value
Comprehension	MCQ

Match List I with List II

LIST I Books		LIST II Authors	
A.	Hunger	I.	Orhan Pamuk
B.	Golden Girl	II.	Knut Hamsun
C.	My Name is Red	III.	Amitav Ghosh
D.	Sea of Poppies	IV.	P.T. Usha

Choose the correct answer from the options given below:

1. A-II, B-IV, C-III, D-I
2. A-II, B-IV, C-I, D-III
3. A-I, B-III, C-II, D-IV
4. A-IV, B-III, C-I, D-II

Options :

485584153837. 1
485584153838. 2
485584153839. 3
485584153840. 4

Question Number : 1230 Question Id : 48558438460 Question Type : MCQ Option Shuffling : No Is Question Mandatory : No Calculator : None
Response Time : N.A Think Time : N.A Minimum Instruction Time : 0

Correct Marks : 5 Wrong Marks : 1

Question Key Details :

Key	Value
Comprehension	MCQ

सूची I का सूची II से मिलान कीजिए

सूची I किताब		सूची II लेखक	
A.	भूख	I.	ओरहान पामुक
B.	गोल्डन गर्ल	II.	नट हेमसन
C.	माई नेम इज रेड	III.	अमितव घोष
D.	सी आफ पोपियो	IV.	पी टी ऊषा

निम्नलिखित विकल्पों में से सही उत्तर का चयन कीजिए :

1. A-II, B-IV, C-III, D-I
2. A-II, B-IV, C-I, D-III
3. A-I, B-III, C-II, D-IV
4. A-IV, B-III, C-I, D-II

Options :

485584153837. 1

485584153838. 2

485584153839. 3

485584153840. 4

Urdu

Group Number :	25
Group Id :	485584906
Group Maximum Duration :	45
Group Minimum Duration :	45
Show Attended Group? :	No
Edit Attended Group? :	No
Break time :	0
Group Marks :	200
Is this Group for Examiner? :	No
Examiner permission :	Cant View
Show Progress Bar? :	No

Urdu

Section Id :	4855841050
Section Number :	1
Section type :	Online
Mandatory or Optional :	Mandatory
Number of Questions :	50
Number of Questions to be attempted :	40
Section Marks :	200
Enable Mark as Answered Mark for Review and Clear Response :	Yes
Maximum Instruction Time :	0
Sub-Section Number :	1
Sub-Section Id :	4855842968
Question Shuffling Allowed :	No
Is Section Default? :	null
Sub-Section Number :	2
Sub-Section Id :	4855842969
Question Shuffling Allowed :	Yes
Is Section Default? :	null
Sub-Section Number :	3
Sub-Section Id :	4855842970
Question Shuffling Allowed :	No
Is Section Default? :	null
Sub-Section Number :	4
Sub-Section Id :	4855842971
Question Shuffling Allowed :	No
Is Section Default? :	null
Sub-Section Number :	5
Sub-Section Id :	4855842972
Question Shuffling Allowed :	Yes
Is Section Default? :	null