

National Testing Agency

Question Paper Name : 22S3
Subject Name : 22Jun2023 Shift3 Subject Combination 1
Creation Date : 2023-06-22 20:03:07
Duration : 270
Total Marks : 1200
Display Marks: Yes

Tibetan

Group Number : 1
Group Id : 485584821
Group Maximum Duration : 45
Group Minimum Duration : 45
Show Attended Group? : No
Edit Attended Group? : No
Break time : 0
Group Marks : 200
Is this Group for Examiner? : No
Examiner permission : Cant View
Show Progress Bar? : No

Tibetan

Section Id : 485584945
Section Number : 1
Section type : Online
Mandatory or Optional : Mandatory
Number of Questions : 50
Number of Questions to be attempted : 40
Section Marks : 200
Enable Mark as Answered Mark for Review and Clear Response : Yes
Maximum Instruction Time : 0
Sub-Section Number : 1
Sub-Section Id : 4855842686
Question Shuffling Allowed : No
Is Section Default? : null
Sub-Section Number : 2
Sub-Section Id : 4855842687
Question Shuffling Allowed : No
Is Section Default? : null
Sub-Section Number : 3
Sub-Section Id : 4855842688
Question Shuffling Allowed : No
Is Section Default? : null
Sub-Section Number : 4
Sub-Section Id : 4855842689
Question Shuffling Allowed : Yes

Is Section Default? : null

Biology

Group Number : 2
Group Id : 485584822
Group Maximum Duration : 45
Group Minimum Duration : 45
Show Attended Group? : No
Edit Attended Group? : No
Break time : 0
Group Marks : 200
Is this Group for Examiner? : No
Examiner permission : Cant View
Show Progress Bar? : No

Biology

Section Id : 485584946
Section Number : 1
Section type : Online
Mandatory or Optional : Mandatory
Number of Questions : 50
Number of Questions to be attempted : 40
Section Marks : 200
Enable Mark as Answered Mark for Review and Clear Response : Yes
Maximum Instruction Time : 0
Sub-Section Number : 1
Sub-Section Id : 4855842690
Question Shuffling Allowed : Yes
Is Section Default? : null

Question Number : 1 Question Id : 48558436386 Question Type : MCQ Option Shuffling : No Is Question Mandatory : No
Calculator : None Response Time : N.A Think Time : N.A Minimum Instruction Time : 0

Correct Marks : 5 Wrong Marks : 1

Question Key Details :

Key	Value
Comprehension	MCQ

Number of chromosomes found in rice gamete is:

1. 8
2. 10
3. 12
4. 14

Options :

485584145541. 1
485584145542. 2
485584145543. 3

485584145544. 4

Question Number : 1 Question Id : 48558436386 Question Type : MCQ Option Shuffling : No Is Question Mandatory : No Calculator : None Response Time : N.A Think Time : N.A Minimum Instruction Time : 0

Correct Marks : 5 Wrong Marks : 1

Question Key Details :

Key	Value
Comprehension	MCQ

چاول کے کروموزوم میں گیمیٹ (Gamete) کی کتنی تعداد پائی جاتی ہے

1. آٹھ
2. دس
3. بارہ
4. چودہ

Options :

485584145541. 1
485584145542. 2
485584145543. 3
485584145544. 4

Question Number : 2 Question Id : 48558436387 Question Type : MCQ Option Shuffling : No Is Question Mandatory : No Calculator : None Response Time : N.A Think Time : N.A Minimum Instruction Time : 0

Correct Marks : 5 Wrong Marks : 1

Question Key Details :

Key	Value
Comprehension	MCQ

Match List I with List II

LIST I (Vegetative propagules)		LIST II (Example)	
A.	Leaf buds	I.	Water hyacinth
B.	Rhizome	II.	Agave
C.	Offset	III.	Ginger
D.	Bulbil	IV.	Bryophyllum

Choose the correct answer from the options given below:

1. A-III, B-IV, C-II, D-I
2. A-II, B-IV, C-I, D-III
3. A-IV, B-III, C-I, D-II
4. A-III, B-II, C-IV, D-I

Options :

485584145545. 1
485584145546. 2
485584145547. 3

Question Number : 2 Question Id : 48558436387 Question Type : MCQ Option Shuffling : No Is Question Mandatory : No
Calculator : None Response Time : N.A Think Time : N.A Minimum Instruction Time : 0

Correct Marks : 5 Wrong Marks : 1

Question Key Details :

Key	Value
Comprehension	MCQ

فہرست I کو فہرست II سے ملائیے

فہرست II (مثالیں)	فہرست I (سبزیوں کے پروپاگولس)
I. واٹر پائسانتھ	A. پتوں کی کلیاں
II. گیبو (Agave)	B. ریزم (Rhizome)
III. ادرك	C. آفسیٹ (Offset)
IV. بروفائیلم (Bryophyllum)	D. بلبیل (Bulbil)

دیے گئے زمروں میں سے درست جواب کا انتخاب کریں

1. A-III, B-IV, C-II, D-I
2. A-II, B-IV, C-I, D-III
3. A-IV, B-III, C-I, D-II
4. A-III, B-II, C-IV, D-I

Options :

485584145545. 1
485584145546. 2
485584145547. 3
485584145548. 4

Question Number : 3 Question Id : 48558436388 Question Type : MCQ Option Shuffling : No Is Question Mandatory : No
Calculator : None Response Time : N.A Think Time : N.A Minimum Instruction Time : 0

Correct Marks : 5 Wrong Marks : 1

Question Key Details :

Key	Value
Comprehension	MCQ

Residual and persistent nucellus present in some seeds is called:

1. Seed coat
2. Pericarp
3. Perisperm
4. Achene

Options :

485584145549. 1
485584145550. 2
485584145551. 3
485584145552. 4

Question Number : 3 Question Id : 48558436388 Question Type : MCQ Option Shuffling : No Is Question Mandatory : No Calculator : None Response Time : N.A Think Time : N.A Minimum Instruction Time : 0

Correct Marks : 5 Wrong Marks : 1

Question Key Details :

Key	Value
Comprehension	MCQ

کچھ بیجوں میں بقایا اور مستقل نیوکلیس موجود رہتا ہے انہیں کیا کہا جاتا ہے۔

1. سیٹ کوٹ (Seed coat)
2. پیریسارپ (Pericarp)
3. پیرسپرم (Perisperm)
4. ایسین (Achene)

Options :

485584145549. 1
485584145550. 2
485584145551. 3
485584145552. 4

Question Number : 4 Question Id : 48558436389 Question Type : MCQ Option Shuffling : No Is Question Mandatory : No Calculator : None Response Time : N.A Think Time : N.A Minimum Instruction Time : 0

Correct Marks : 5 Wrong Marks : 1

Question Key Details :

Key	Value
Comprehension	MCQ

The wall layer which provides nourishment to the developing pollen grains is called:

1. Epidermis
2. Endothecium
3. Middle Layer
4. Tapetum

Options :

485584145553. 1
485584145554. 2
485584145555. 3
485584145556. 4

Question Number : 4 Question Id : 48558436389 Question Type : MCQ Option Shuffling : No Is Question Mandatory : No Calculator : None Response Time : N.A Think Time : N.A Minimum Instruction Time : 0

Correct Marks : 5 Wrong Marks : 1

Question Key Details :

Key	Value
Comprehension	MCQ

ول وال لیر (Wall layer) جو اناج کے جرگ (Pollen) کی ترقی کے دوران پرورش مہیا کرتی ہے اسے کیا کہتے ہیں

1. ایپیڈرم (Epidermis)
2. انڈوتھیسیم (Endothecium)
3. مڈل لیئر (Middle Layer)
4. ٹیپٹم (Tapetum)

Options :

485584145553. 1
485584145554. 2
485584145555. 3
485584145556. 4

Question Number : 5 Question Id : 48558436390 Question Type : MCQ Option Shuffling : No Is Question Mandatory : No Calculator : None Response Time : N.A Think Time : N.A Minimum Instruction Time : 0

Correct Marks : 5 Wrong Marks : 1

Question Key Details :

Key	Value
Comprehension	MCQ

Spermiation is the _____.

1. Process of release of sperms from the seminiferous tubules
2. Process of formation of sperms
3. Transformation of spermatids into sperms
4. Process of formation of spermatogonia

Options :

485584145557. 1
485584145558. 2
485584145559. 3
485584145560. 4

Question Number : 5 Question Id : 48558436390 Question Type : MCQ Option Shuffling : No Is Question Mandatory : No Calculator : None Response Time : N.A Think Time : N.A Minimum Instruction Time : 0

Correct Marks : 5 Wrong Marks : 1

Question Key Details :

Key	Value
Comprehension	MCQ

نطفے کا اخراج.....ہے۔

1. سیمینفورس ٹیوب سے نطفے کے خارج ہونے کا عمل
2. نطفے کے بننے / تیار ہونے کا عمل
3. خام نطفے کی ابتدائی شکل کا نطفے میں تبدیل ہونا۔
4. ابتدائی خلیوں کے تیار ہونے کا عمل

Options :

485584145557. 1
485584145558. 2
485584145559. 3
485584145560. 4

Question Number : 6 Question Id : 48558436391 Question Type : MCQ Option Shuffling : No Is Question Mandatory : No Calculator : None Response Time : N.A Think Time : N.A Minimum Instruction Time : 0

Correct Marks : 5 Wrong Marks : 1

Question Key Details :

Key	Value
Comprehension	MCQ

Which of the following hormones are secreted by placenta?

- A. hCG
- B. hPL
- C. Estrogens
- D. Progestogens
- E. Relaxin

Choose the correct answer from the options given below:

1. A, B, and E only
2. A, B, C and E only
3. A, B, D and E only
4. A, B, C and D only

Options :

- 485584145561. 1
- 485584145562. 2
- 485584145563. 3
- 485584145564. 4

Question Number : 6 Question Id : 48558436391 Question Type : MCQ Option Shuffling : No Is Question Mandatory : No Calculator : None Response Time : N.A Think Time : N.A Minimum Instruction Time : 0

Correct Marks : 5 Wrong Marks : 1

Question Key Details :

Key	Value
Comprehension	MCQ

مندرجہ ذیل میں کون سے ہارمونس (Harmones) پلینٹا (Placenta) کی طرف سے چھپا/خفیہ رکھے ہوئے ہیں۔

- A. hCG - ایچ سی جی
- B. hPL - ایچ پی ایل
- C. اسٹروجن (Estrogens)
- D. پروگیسٹونس (Progestogens)
- E. ریلیکسین (Relaxin)

دیے گئے زمروں میں سے درست جواب کا انتخاب کریں۔

1. صرف A, B اور E
2. صرف A, B, C اور E
3. صرف A, B, D اور E
4. صرف A, B, C اور D

Options :

- 485584145561. 1
- 485584145562. 2
- 485584145563. 3
- 485584145564. 4

Question Number : 7 Question Id : 48558436392 Question Type : MCQ Option Shuffling : No Is Question Mandatory : No Calculator : None Response Time : N.A Think Time : N.A Minimum Instruction Time : 0

Correct Marks : 5 Wrong Marks : 1

Question Key Details :

Key	Value
Comprehension	MCQ

Which of the following disease is completely curable if detected early?

1. Genital herpes
2. HIV infections
3. Hepatitis-B
4. Trichomoniasis

Options :

485584145565. 1
485584145566. 2
485584145567. 3
485584145568. 4

Question Number : 7 Question Id : 48558436392 Question Type : MCQ Option Shuffling : No Is Question Mandatory : No Calculator : None Response Time : N.A Think Time : N.A Minimum Instruction Time : 0

Correct Marks : 5 Wrong Marks : 1

Question Key Details :

Key	Value
Comprehension	MCQ

مندرجہ ذیل میں کون سی بیماری مکمل طور پر قابل علاج ہے اگر جلدی پتہ چل جائے

1. جینائٹل ہرپس
2. ایچ آئی وی انفیکشن
3. ہیپاٹائٹس B
4. ٹریکیو مونائیسس

Options :

485584145565. 1
485584145566. 2
485584145567. 3
485584145568. 4

Question Number : 8 Question Id : 48558436393 Question Type : MCQ Option Shuffling : No Is Question Mandatory : No Calculator : None Response Time : N.A Think Time : N.A Minimum Instruction Time : 0

Correct Marks : 5 Wrong Marks : 1

Question Key Details :

Key	Value
Comprehension	MCQ

Identify the terminal methods to prevent pregnancy.

- A. Tubectomy
- B. Vasectomy
- C. IUDs
- D. Cervical caps

Choose the correct answer from the options given below:

1. A and D only
2. A and C only
3. B and D only
4. A and B only

Options :

- 485584145569. 1
- 485584145570. 2
- 485584145571. 3
- 485584145572. 4

Question Number : 8 Question Id : 48558436393 Question Type : MCQ Option Shuffling : No Is Question Mandatory : No Calculator : None Response Time : N.A Think Time : N.A Minimum Instruction Time : 0

Correct Marks : 5 Wrong Marks : 1

Question Key Details :

Key	Value
Comprehension	MCQ

حاملہ ہونے سے بچنے کے طریقوں کی نشاندہی کریں۔

- A. ٹیوبیکٹومی
- B. نس بندی
- C. آئی یو ڈی ایس (IUDs)
- D. کرویپل کیپ (Cervical caps)

دیے گئے زمروں میں سے درست جواب کا انتخاب کریں۔

1. صرف A اور D
2. صرف A اور C
3. صرف B اور D
4. صرف A اور B

Options :

- 485584145569. 1
- 485584145570. 2
- 485584145571. 3
- 485584145572. 4

Question Number : 9 Question Id : 48558436394 Question Type : MCQ Option Shuffling : No Is Question Mandatory : No Calculator : None Response Time : N.A Think Time : N.A Minimum Instruction Time : 0

Correct Marks : 5 Wrong Marks : 1

Question Key Details :

Key	Value
Comprehension	MCQ

The person with karyotype 44+XXY is suffering from:

1. Down's Syndrome
2. Klinefelter's Syndrome
3. Turner's Syndrome
4. Edward's Syndrome

Options :

485584145573. 1
485584145574. 2
485584145575. 3
485584145576. 4

Question Number : 9 Question Id : 48558436394 Question Type : MCQ Option Shuffling : No Is Question Mandatory : No Calculator : None Response Time : N.A Think Time : N.A Minimum Instruction Time : 0

Correct Marks : 5 Wrong Marks : 1

Question Key Details :

Key	Value
Comprehension	MCQ

شخص جسے کریوٹائپ 44+XXY (Karyotype 44+XXY) ہو کس سے متاثر (Suffering) ہوتا ہے۔

1. ڈاؤن سنڈروم
2. لینفیلٹر سنڈروم
3. ٹرنر سنڈروم
4. ایڈوارڈ سنڈروم

Options :

485584145573. 1
485584145574. 2
485584145575. 3
485584145576. 4

Question Number : 10 Question Id : 48558436395 Question Type : MCQ Option Shuffling : No Is Question Mandatory : No Calculator : None Response Time : N.A Think Time : N.A Minimum Instruction Time : 0

Correct Marks : 5 Wrong Marks : 1

Question Key Details :

Key	Value
Comprehension	MCQ

Select the mendelian disorders from the following:

- A. Thalassemia
- B. Turner's Syndrome
- C. Cystic Fibrosis
- D. Sickle cell anaemia

Choose the *correct answer* from the options given below:

1. B and D only
2. A, C and D only
3. B, C and D only
4. A and D only

Options :

- 485584145577. 1
- 485584145578. 2
- 485584145579. 3
- 485584145580. 4

Question Number : 10 Question Id : 48558436395 Question Type : MCQ Option Shuffling : No Is Question Mandatory : No Calculator : None Response Time : N.A Think Time : N.A Minimum Instruction Time : 0

Correct Marks : 5 Wrong Marks : 1

Question Key Details :

Key	Value
Comprehension	MCQ

مندرجہ ذیل میں منڈیلین عارضہ / خرابہ کو چنیں۔

- A. تھلا سیمیہ (Thalassemia)
- B. ٹرنر سنڈروم (Turner's Syndrome)
- C. سائٹک فابیروسس (Cystic Fibrosis)
- D. سیکل سیل انیمیہ (Sickle cell anaemia)

دیے گئے زمروں میں سے درست جواب کا انتخاب کریں۔

1. D, B صرف
2. D, C, A صرف
3. D, C, B صرف
4. D, A صرف

Options :

- 485584145577. 1
- 485584145578. 2
- 485584145579. 3
- 485584145580. 4

Question Number : 11 Question Id : 48558436396 Question Type : MCQ Option Shuffling : No Is Question Mandatory : No Calculator : None Response Time : N.A Think Time : N.A Minimum Instruction Time : 0

Correct Marks : 5 Wrong Marks : 1

Question Key Details :

Key	Value
Comprehension	MCQ

Match List I with List II

LIST I		LIST II	
A.	Phenotype reflects the contribution of each allele	I.	Pleiotropy
B.	Multiple phenotypic expressions by a single gene	II.	Linkage
C.	Generation of non-parental gene combinations	III.	Polygenic inheritance
D.	Parental gene combinations higher than non-parental type in F ₂ progeny	IV.	Recombination

Choose the correct answer from the options given below:

1. A-III, B-I, C-IV, D-II
2. A-I, B-IV, C-II, D-III
3. A-III, B-IV, C-I, D-II
4. A-I, B-III, C-II, D-IV

Options :

- 485584145581. 1
- 485584145582. 2
- 485584145583. 3
- 485584145584. 4

Question Number : 11 Question Id : 48558436396 Question Type : MCQ Option Shuffling : No Is Question Mandatory : No Calculator : None Response Time : N.A Think Time : N.A Minimum Instruction Time : 0

Correct Marks : 5 Wrong Marks : 1

Question Key Details :

Key	Value
Comprehension	MCQ

فہرست I کو فہرست II سے ملائیں۔

فہرست II	فہرست I
.I .ایلوٹرونی	.A .فینوٹائپ پر ایلیل کی تسامیت کا عیاں کرتا ہے
.II .انکیج	.B .کئی فینوٹائیک ایک سیل سے ظاہر ہوتے ہیں
.III .یولیگینک انہیریٹینس (Inheritance)	.C .غیر والدین جینی مجموعہ کی افزائش
.IV .Recombination	.D .والدین کے جین کا مجموعہ زیادہ بمقابلہ غیر والدین جینی مجموعہ F_2 پروگینی کی قسم میں

دیے گئے زمروں میں سے درست جواب کا انتخاب کریں۔

1. A-III, B-I, C-IV, D-II
2. A-I, B-IV, C-II, D-III
3. A-III, B-IV, C-I, D-II
4. A-I, B-III, C-II, D-IV

Options :

485584145581. 1
485584145582. 2
485584145583. 3
485584145584. 4

Question Number : 12 Question Id : 48558436397 Question Type : MCQ Option Shuffling : No Is Question Mandatory : No Calculator : None Response Time : N.A Think Time : N.A Minimum Instruction Time : 0

Correct Marks : 5 Wrong Marks : 1

Question Key Details :

Key	Value
Comprehension	MCQ

Point mutations means:

1. Change in one base pair
2. Change in one allele
3. Change of base pair at a location without any significance
4. Addition or deletion of codons in multiple of three at a point

Options :

485584145585. 1
485584145586. 2
485584145587. 3
485584145588. 4

Question Number : 12 Question Id : 48558436397 Question Type : MCQ Option Shuffling : No Is Question Mandatory : No Calculator : None Response Time : N.A Think Time : N.A Minimum Instruction Time : 0

Correct Marks : 5 Wrong Marks : 1

Question Key Details :

Key	Value
Comprehension	MCQ

نقطہ تغیرات (Point mutation) کے معنی ہیں۔

1. ایک بنیادی (Base) جوڑے (Pair) میں تبدیلی
2. ایک ایٹل (Allele) میں تبدیلی
3. بیس پیر میں تبدیلی اسی مقام پر بغیر کسی نشانی کے۔
4. کنڈون کی شمولیت یا اخراج تین گنا اسی پوائنٹ پر

Options :

485584145585. 1
485584145586. 2
485584145587. 3
485584145588. 4

Question Number : 13 Question Id : 48558436398 Question Type : MCQ Option Shuffling : No Is Question Mandatory : No Calculator : None Response Time : N.A Think Time : N.A Minimum Instruction Time : 0

Correct Marks : 5 Wrong Marks : 1

Question Key Details :

Key	Value
Comprehension	MCQ

Which of the following is a stop codon?

1. UAC
2. UAG
3. UAU
4. AUG

Options :

485584145589. 1
485584145590. 2
485584145591. 3
485584145592. 4

Question Number : 13 Question Id : 48558436398 Question Type : MCQ Option Shuffling : No Is Question Mandatory : No Calculator : None Response Time : N.A Think Time : N.A Minimum Instruction Time : 0

Correct Marks : 5 Wrong Marks : 1

Question Key Details :

Key	Value
Comprehension	MCQ

مندرجہ ذیل میں کون اسٹاپ کنڈون (Stop condon) ہے۔

1. UAC
2. UAG
3. UAU
4. AUG

Options :

485584145589. 1
485584145590. 2
485584145591. 3
485584145592. 4

Question Number : 14 Question Id : 48558436399 Question Type : MCQ Option Shuffling : No Is Question Mandatory : No Calculator : None Response Time : N.A Think Time : N.A Minimum Instruction Time : 0

Correct Marks : 5 Wrong Marks : 1

Question Key Details :

Key	Value
Comprehension	MCQ

Match List I with List II

LIST I (Codes)		LIST II (Codes for)	
A.	UUU	I.	Phenylalanine
B.	AUG	II.	Initiator codon
C.	UAA	III.	Terminator codon
D.	GUU	IV.	Valine

Choose the correct answer from the options given below:

1. A-I, B-II, C-III, D-IV
2. A-II, B-I, C-III, D-IV
3. A-I, B-II, C-IV, D-III
4. A-III, B-IV, C-I, D-II

Options :

485584145593. 1
485584145594. 2
485584145595. 3
485584145596. 4

Question Number : 14 Question Id : 48558436399 Question Type : MCQ Option Shuffling : No Is Question Mandatory : No Calculator : None Response Time : N.A Think Time : N.A Minimum Instruction Time : 0

Correct Marks : 5 Wrong Marks : 1

Question Key Details :

Key	Value
Comprehension	MCQ

فہرست I کو فہرست II سے ملائیں

فہرست II		فہرست I	
فینیلانین	.I	UUU	.A
تدوع کرنے والا کنٹون	.II	AUG	.B
ختم کرنے والا کنٹون	.III	UAA	.C
ویلائن	.IV	GUU	.D

دیے گئے زمروں میں سے درست جواب کا انتخاب کریں

1. A-I, B-II, C-III, D-IV
2. A-II, B-I, C-III, D-IV
3. A-I, B-II, C-IV, D-III
4. A-III, B-IV, C-I, D-II

Options :

485584145593. 1
485584145594. 2
485584145595. 3
485584145596. 4

Question Number : 15 Question Id : 48558436400 Question Type : MCQ Option Shuffling : No Is Question Mandatory : No Calculator : None Response Time : N.A Think Time : N.A Minimum Instruction Time : 0

Correct Marks : 5 Wrong Marks : 1

Question Key Details :

Key	Value
Comprehension	MCQ

Multiple additions of new genes or alleles to the new population and their loss from the old population of a particular place due to migration is known as:

1. Gene flow
2. Genetic drift
3. Mutation
4. Natural selection

Options :

485584145597. 1
485584145598. 2

485584145599. 3

485584145600. 4

Question Number : 15 Question Id : 48558436400 Question Type : MCQ Option Shuffling : No Is Question Mandatory : No Calculator : None Response Time : N.A Think Time : N.A Minimum Instruction Time : 0

Correct Marks : 5 Wrong Marks : 1

Question Key Details :

Key	Value
Comprehension	MCQ

ایک خاص جگہ کی آبادی میں ہجرت/مائیگریشن کی وجہ سے کئی نئے جین Gene یا ایلل (Allele) کا نئی آبادی میں شامل ہونے اور پرانی آبادی سے خارج ہونے کو کہا جاتا ہے

1. جین فلو (Gene flow)
2. جینیاتی بہاؤ (Genetic drift)
3. تغیرات (Mutation)
4. قدرتی سلیکشن (Natural selection)

Options :

485584145597. 1

485584145598. 2

485584145599. 3

485584145600. 4

Question Number : 16 Question Id : 48558436401 Question Type : MCQ Option Shuffling : No Is Question Mandatory : No Calculator : None Response Time : N.A Think Time : N.A Minimum Instruction Time : 0

Correct Marks : 5 Wrong Marks : 1

Question Key Details :

Key	Value
Comprehension	MCQ

Australian marsupials show the phenomena of:

1. Convergent evolution
2. Adaptive radiation
3. Isolation
4. Saltation

Options :

485584145601. 1

485584145602. 2

485584145603. 3

485584145604. 4

Question Number : 16 Question Id : 48558436401 Question Type : MCQ Option Shuffling : No Is Question Mandatory : No Calculator : None Response Time : N.A Think Time : N.A Minimum Instruction Time : 0

Correct Marks : 5 Wrong Marks : 1

Question Key Details :

Key	Value
Comprehension	MCQ

اسٹریٹیجی مار سوپونل کس قدرتی سرگرمی کو ظاہر کرتا ہے

1. متضاد ارتقا
2. انکولوجی تابکاری
3. اکیلیے / تنہا (Isolation)
4. نمکین (Saltation)

Options :

485584145601. 1
485584145602. 2
485584145603. 3
485584145604. 4

Question Number : 17 Question Id : 48558436402 Question Type : MCQ Option Shuffling : No Is Question Mandatory : No Calculator : None Response Time : N.A Think Time : N.A Minimum Instruction Time : 0

Correct Marks : 5 Wrong Marks : 1

Question Key Details :

Key	Value
Comprehension	MCQ

Identify the examples of evolution caused due to anthropogenic actions:

- A. *Bacillus thuringiensis* and Lepidopterans
- B. Industrial melanism in moths
- C. Resistant microbes against antibiotics
- D. Pesticides and insects

Choose the correct answer from the options given below:

1. A, B and C only
2. A, B and D only
3. B, C and D only
4. A, C and D Only

Options :

485584145605. 1
485584145606. 2
485584145607. 3
485584145608. 4

Question Number : 17 Question Id : 48558436402 Question Type : MCQ Option Shuffling : No Is Question Mandatory : No Calculator : None Response Time : N.A Think Time : N.A Minimum Instruction Time : 0

Correct Marks : 5 Wrong Marks : 1

Question Key Details :

Key	Value
-----	-------

انٹھروپوگینک عمل کی وجہ سے ہونے والے ارتقا کی مثالوں کی نشاندہی کریں۔

- A. بیسولس تھیورینگینس اور لیپٹوٹیرین (*Bacillus thuringiensis* and Lepidoptera)
 B. کیڑے میں صنعتی میلانزم
 C. اینٹی بائیوٹکس کے خلاف مزاحمت کرنے والے جرثومے
 D. کیڑے مار ادویات اور کیڑے

دیے گئے زمروں میں سے درست جواب کا انتخاب کریں

1. A, B, C
2. A, B, D
3. B, C, D
4. A, C, D

Options :

485584145605. 1
 485584145606. 2
 485584145607. 3
 485584145608. 4

Question Number : 18 Question Id : 48558436403 Question Type : MCQ Option Shuffling : No Is Question Mandatory : No Calculator : None Response Time : N.A Think Time : N.A Minimum Instruction Time : 0

Correct Marks : 5 Wrong Marks : 1

Question Key Details :

Key	Value
Comprehension	MCQ

The presence of which disease is confirmed by Widal Test?

1. Malaria
2. Pneumonia
3. Typhoid
4. AIDS

Options :

485584145609. 1
 485584145610. 2
 485584145611. 3
 485584145612. 4

Question Number : 18 Question Id : 48558436403 Question Type : MCQ Option Shuffling : No Is Question Mandatory : No Calculator : None Response Time : N.A Think Time : N.A Minimum Instruction Time : 0

Correct Marks : 5 Wrong Marks : 1

Question Key Details :

Key	Value
Comprehension	MCQ

وائیٹل ٹیسٹ سے کس بیماری کی موجودگی کا پتہ لگایا جاتا ہے

1. ملیریا
2. نیمونیا
3. ٹائفائڈ
4. ایڈز

Options :

485584145609. 1
485584145610. 2
485584145611. 3
485584145612. 4

Question Number : 19 Question Id : 48558436404 Question Type : MCQ Option Shuffling : No Is Question Mandatory : No Calculator : None Response Time : N.A Think Time : N.A Minimum Instruction Time : 0

Correct Marks : 5 Wrong Marks : 1

Question Key Details :

Key	Value
Comprehension	MCQ

Arrange the stages of HIV infection in humans sequentially.

- A. Introduction of viral DNA in the cell
- B. Production of multiple viruses
- C. Infection of human cell by virus
- D. Incorporation of viral DNA into host genome

Choose the correct answer from the options given below:

1. A, B, D, C
2. C, A, D, B
3. D, A, B, C
4. B, A, D, C

Options :

485584145613. 1
485584145614. 2
485584145615. 3
485584145616. 4

Question Number : 19 Question Id : 48558436404 Question Type : MCQ Option Shuffling : No Is Question Mandatory : No Calculator : None Response Time : N.A Think Time : N.A Minimum Instruction Time : 0

Correct Marks : 5 Wrong Marks : 1

Question Key Details :

Key	Value
Comprehension	MCQ

انسانوں میں ایچ آئی وی (HIV) انفیکشن کے اسٹیج کو ترتیب دیں

A. سیل میں وائرل ڈی این اے (DNA) کا متعارف

B. مختلف وائرس کا پیدا ہونا

C. انسانی سیل کا وائرس سے انفیکشن ہونا

D. وائرل ڈی این اے کا میزبان گینوم میں تبدیل ہونا

دیے گئے زمروں میں سے درست جواب کا انتخاب کریں۔

1. A, B, D, C

2. C, A, D, B

3. D, A, B, C

4. B, A, D, C

Options :

485584145613. 1

485584145614. 2

485584145615. 3

485584145616. 4

Question Number : 20 Question Id : 48558436405 Question Type : MCQ Option Shuffling : No Is Question Mandatory : No Calculator : None Response Time : N.A Think Time : N.A Minimum Instruction Time : 0

Correct Marks : 5 Wrong Marks : 1

Question Key Details :

Key	Value
Comprehension	MCQ

Match List I with List II

LIST I Causal organism		LIST II Disease	
A.	<i>Wuchereria bancrofti</i>	I.	Ringworm
B.	<i>Microsporium</i>	II.	Elephantiasis
C.	<i>Entamoeba histolytica</i>	III.	Malaria
D.	<i>Plasmodium vivax</i>	IV.	Amoebiasis

Choose the correct answer from the options given below:

1. A-II, B-I, C-IV, D-III

2. A-I, B-II, C-III, D-IV

3. A-IV, B-III, C-II, D-I

4. A-I, B-II, C-IV, D-III

Options :

485584145617. 1

485584145618. 2

485584145619. 3

485584145620. 4

Question Number : 20 Question Id : 48558436405 Question Type : MCQ Option Shuffling : No Is Question Mandatory : No Calculator : None Response Time : N.A Think Time : N.A Minimum Instruction Time : 0
 Correct Marks : 5 Wrong Marks : 1
 Question Key Details :

Key	Value
Comprehension	MCQ

فہرست I کو فہرست II سے ملائیں

فہرست II (بیماریاں)	فہرست I (Causal organism/ کوئل جاندار)
.I رنگ وارم	.A وچوریہ بینکروفت (<i>Wuchereria bancrofti</i>)
.II ایفٹھائیس	.B مائکرو سپورم (<i>Microsporium</i>)
.III ملیریا	.C انٹیامیبیسٹولٹیٹہ (<i>Entamoeba histolytica</i>)
.IV ایموائس	.D انیزموٹیم والوکس (<i>Plasmodium vivax</i>)

دیے گئے زمروں میں سے درست جواب کا انتخاب کریں

1. A-II, B-I, C-IV, D-III
2. A-I, B-II, C-III, D-IV
3. A-IV, B-III, C-II, D-I
4. A-I, B-II, C-IV, D-III

Options :

485584145617. 1
485584145618. 2
485584145619. 3
485584145620. 4

Question Number : 21 Question Id : 48558436406 Question Type : MCQ Option Shuffling : No Is Question Mandatory : No Calculator : None Response Time : N.A Think Time : N.A Minimum Instruction Time : 0
 Correct Marks : 5 Wrong Marks : 1
 Question Key Details :

Key	Value
Comprehension	MCQ

Homozygosity is achieved through :

1. Recombinant DNA technology
2. Vaccination
3. Inbreeding
4. Hybridoma technology

Options :

485584145621. 1
485584145622. 2
485584145623. 3
485584145624. 4

Question Number : 21 Question Id : 48558436406 Question Type : MCQ Option Shuffling : No Is Question Mandatory : No Calculator : None Response Time : N.A Think Time : N.A Minimum Instruction Time : 0

Correct Marks : 5 Wrong Marks : 1

Question Key Details :

Key	Value
Comprehension	MCQ

ہوموزائگوسٹی کس کے ذریعے حاصل کی جاتی ہے

1. ریکمبائنٹ ڈی این اے ٹیکنالوجی
2. ویکسینیشن
3. ان بربڈنگ
4. ہائبرائیڈوما ٹیکنالوجی

Options :

485584145621. 1
485584145622. 2
485584145623. 3
485584145624. 4

Question Number : 22 Question Id : 48558436407 Question Type : MCQ Option Shuffling : No Is Question Mandatory : No Calculator : None Response Time : N.A Think Time : N.A Minimum Instruction Time : 0

Correct Marks : 5 Wrong Marks : 1

Question Key Details :

Key	Value
Comprehension	MCQ

Arrange the steps involved in breeding a crop for a new genetic variety in sequence.

- A. Selection and testing of superior recombinants
- B. Evaluation and selection of parents
- C. Collection of variability
- D. Testing release and commercialisation of new cultivars
- E. Cross hybridisation among selected parents

Choose the correct answer from the options given below:

1. A → C → B → E → D
2. B → D → A → C → E
3. C → B → E → A → D
4. D → B → A → E → C

Options :

485584145625. 1
485584145626. 2
485584145627. 3
485584145628. 4

Question Number : 22 Question Id : 48558436407 Question Type : MCQ Option Shuffling : No Is Question Mandatory : No Calculator : None Response Time : N.A Think Time : N.A Minimum Instruction Time : 0

Correct Marks : 5 Wrong Marks : 1

Question Key Details :

Key	Value
Comprehension	MCQ

فصل کی پیداوار میں نئی جینیاتی ویراپتی کو پیدا کرنے میں شامل مراحل کو ترتیب دیں۔

- A. اعلیٰ ریکمبینٹ کا انتخاب اور اس کی ٹیسٹ
- B. ارتقاء اور والدین کا انتخاب
- C. مختلف نمونوں کو اکٹھا کرنا
- D. نئی پیداوار کی ٹیسٹنگ اور کمرشلایزیشن
- E. منتخب والدین کی ہائبرڈائزیشن

دیے گئے زمروں میں سے درست جواب کا انتخاب کریں

1. A → C → B → E → D
2. B → D → A → C → E
3. C → B → E → A → D
4. D → B → A → E → C

Options :

485584145625. 1
485584145626. 2
485584145627. 3
485584145628. 4

Question Number : 23 Question Id : 48558436408 Question Type : MCQ Option Shuffling : No Is Question Mandatory : No Calculator : None Response Time : N.A Think Time : N.A Minimum Instruction Time : 0

Correct Marks : 5 Wrong Marks : 1

Question Key Details :

Key	Value
Comprehension	MCQ

Match List I with List II

LIST I		LIST II	
A.	<i>Apis indica</i>	I.	Dairying
B.	<i>Catla</i>	II.	Poultry
C.	Leghorn	III.	Fisheries
D.	Jersey	IV.	Bee-keeping

Choose the correct answer from the options given below:

1. A-I, B-II, C-III, D-IV
2. A-II, B-I, C-III, D-IV
3. A-IV, B-III, C-II, D-I
4. A-III, B-IV, C-I, D-II

Options :

- 485584145629. 1
- 485584145630. 2
- 485584145631. 3
- 485584145632. 4

Question Number : 23 Question Id : 48558436408 Question Type : MCQ Option Shuffling : No Is Question Mandatory : No Calculator : None Response Time : N.A Think Time : N.A Minimum Instruction Time : 0

Correct Marks : 5 Wrong Marks : 1

Question Key Details :

Key	Value
Comprehension	MCQ

فہرست I کو فہرست II سے ملائیں

فہرست II		فہرست I	
I	بودھ دینے کے لیے	A	آپیس انڈیکا
II	یولٹری	B	کھٹلا
III	ماہی گیری	C	لیگورن
IV	شہد کی مکھیوں کی حفاظت	D	جرسی

دیے گئے زمروں میں سے درست جواب کا انتخاب کریں۔

1. A-I, B-II, C-III, D-IV
2. A-II, B-I, C-III, D-IV
3. A-IV, B-III, C-II, D-I
4. A-III, B-IV, C-I, D-II

Options :

485584145629. 1
485584145630. 2
485584145631. 3
485584145632. 4

Question Number : 24 Question Id : 48558436409 Question Type : MCQ Option Shuffling : No Is Question Mandatory : No Calculator : None Response Time : N.A Think Time : N.A Minimum Instruction Time : 0

Correct Marks : 5 Wrong Marks : 1

Question Key Details :

Key	Value
Comprehension	MCQ

Which of the following microbe serves as an important biofertiliser in paddy field?

1. Cyanobacteria
2. *Rhizobium*
3. Mycorrhiza
4. *Bacillus thuringiensis*

Options :

485584145633. 1
485584145634. 2
485584145635. 3
485584145636. 4

Question Number : 24 Question Id : 48558436409 Question Type : MCQ Option Shuffling : No Is Question Mandatory : No Calculator : None Response Time : N.A Think Time : N.A Minimum Instruction Time : 0

Correct Marks : 5 Wrong Marks : 1

Question Key Details :

Key	Value
Comprehension	MCQ

مندرجہ ذیل میں کون مائکروب دھان کے کھیتوں میں بائیو کھاد مہیا کرتا ہے

1. (Cyanobacteria) سیانو بیکٹیریا
2. (*Rhizobium*) ریزوبیم
3. (Mycorrhiza) مایکروہیزا
4. (*Bacillus thuringiensis*) بیسولس تھیورینگنسیس

Options :

485584145633. 1
485584145634. 2
485584145635. 3
485584145636. 4

Question Number : 25 Question Id : 48558436410 Question Type : MCQ Option Shuffling : No Is Question Mandatory : No Calculator : None Response Time : N.A Think Time : N.A Minimum Instruction Time : 0

Correct Marks : 5 Wrong Marks : 1

Question Key Details :

Key	Value
Comprehension	MCQ

Identify the correct statements with respect to microbes.

- A. "Toddy" the traditional drink obtained by fermenting sap of Palm tree.
- B. Swiss cheese's large holes are due to activity of *Saccharomyces cerevisiae*.
- C. "Penicillin" was discovered by Alexander Fleming.
- D. The Cyclosporin A, is produced by *Trichoderma polysporum*.

Choose the the correct answer from the options given below:

1. A, B and D only
2. A and B only
3. A, C, and D only
4. C and D only

Options :

485584145637. 1
485584145638. 2
485584145639. 3
485584145640. 4

Question Number : 25 Question Id : 48558436410 Question Type : MCQ Option Shuffling : No Is Question Mandatory : No Calculator : None Response Time : N.A Think Time : N.A Minimum Instruction Time : 0

Correct Marks : 5 Wrong Marks : 1

Question Key Details :

Key	Value
Comprehension	MCQ

مائیکروبس کے متعلق صحیح بیان کی نشاندہی کریں

- A. ٹوڈی (*Toddy*) ایک روایتی مشروب ہے جو کھجور کے درخت سے خمیر نکالا جاتا ہے
- B. سچاروما سس سیرویوسہ (*Saccharomyces cerevisiae*) کی سرگرمیوں کی وجہ سے سوئس چیز (Swiss cheese) میں زیادہ سوراخ ہوتے ہیں۔
- C. پینسلین (Penicillin) الیگزینڈر فلیمنگ نے ایجاد کی
- D. سایکلوسپورین (Cyclosporin)، ٹریشوڈرما پولیسپورم (*Trichoderma polysporum*) سے تیار کیا جاتا ہے
- دیے گئے زمروں میں سے درست جواب کا انتخاب کریں۔

1. D, B, A صرف

2. B, A صرف

3. D, C, A صرف

4. D اور C صرف

Options :

485584145637. 1

485584145638. 2

485584145639. 3

485584145640. 4

Question Number : 26 Question Id : 48558436411 Question Type : MCQ Option Shuffling : No Is Question Mandatory : No Calculator : None Response Time : N.A Think Time : N.A Minimum Instruction Time : 0

Correct Marks : 5 Wrong Marks : 1

Question Key Details :

Key	Value
Comprehension	MCQ

Match List I with List II

LIST I Organism		LIST II Product	
A.	<i>Streptococcus</i>	I.	Citric acid
B.	<i>Aspergillus niger</i>	II.	Streptokinase
C.	<i>Monascus purpureus</i>	III.	Ethanol
D.	<i>Saccharomyces cerevisiae</i>	IV.	Statin

Choose the correct answer from the options given below:

1. A-II, B-I, C-IV, D-III

2. A-I, B-II, C-III, D-IV

3. A-II, B-I, C-III, D-IV

4. A-III, B-IV, C-I, D-II

Options :

485584145641. 1

485584145642. 2

485584145643. 3

485584145644. 4

Question Number : 26 Question Id : 48558436411 Question Type : MCQ Option Shuffling : No Is Question Mandatory : No Calculator : None Response Time : N.A Think Time : N.A Minimum Instruction Time : 0

Correct Marks : 5 Wrong Marks : 1

Question Key Details :

Key	Value
Comprehension	MCQ

فہرست I کو فہرست II سے ملائیں

فہرست II مصنوعات	فہرست I جاندار
I. سٹیپٹوکوکس تیزاب	A. اسٹریپٹوکوکس (<i>Streptococcus</i>)
II. اسٹریپٹوکوکس کانٹیس	B. اسپیرگولس ناجر (<i>Aspergillus niger</i>)
III. ایٹھنول	C. موناسوس پریورس (<i>Monascus purpureus</i>)
IV. اسٹافیلین	D. سچا رومائیسس سیریوسلیہ (<i>Saccharomyces cerevisiae</i>)

دیے گئے زمروں میں سے درست جواب کا انتخاب کریں

1. A-II, B-I, C-IV, D-III

2. A-I, B-II, C-III, D-IV

3. A-II, B-I, C-III, D-IV

4. A-III, B-IV, C-I, D-II

Options :

485584145641. 1

485584145642. 2

485584145643. 3

485584145644. 4

Question Number : 27 Question Id : 48558436412 Question Type : MCQ Option Shuffling : No Is Question Mandatory : No Calculator : None Response Time : N.A Think Time : N.A Minimum Instruction Time : 0

Correct Marks : 5 Wrong Marks : 1

Question Key Details :

Key	Value
Comprehension	MCQ

Which of the following is not a part of downstream processing?

1. Separation
2. Purification
3. Quality control
4. Biosynthesis

Options :

485584145645. 1
485584145646. 2
485584145647. 3
485584145648. 4

Question Number : 27 Question Id : 48558436412 Question Type : MCQ Option Shuffling : No Is Question Mandatory : No Calculator : None Response Time : N.A Think Time : N.A Minimum Instruction Time : 0

Correct Marks : 5 Wrong Marks : 1

Question Key Details :

Key	Value
Comprehension	MCQ

ذیل میں کون ڈاؤن اسٹریم پروسیسنگ (Downstream processing) کا حصہ نہیں ہے

1. الگ الگ کرنا
2. صاف کرنا
3. معیار پر قابو
4. بائیوسینتھیسس

Options :

485584145645. 1
485584145646. 2
485584145647. 3
485584145648. 4

Question Number : 28 Question Id : 48558436413 Question Type : MCQ Option Shuffling : No Is Question Mandatory : No Calculator : None Response Time : N.A Think Time : N.A Minimum Instruction Time : 0

Correct Marks : 5 Wrong Marks : 1

Question Key Details :

Key	Value
Comprehension	MCQ

Which was the first restriction endonuclease discovered?

1. *EcoRI*
2. *BamH I*
3. *Hind II*
4. *Pst I*

Options :

485584145649. 1
485584145650. 2
485584145651. 3
485584145652. 4

Question Number : 28 Question Id : 48558436413 Question Type : MCQ Option Shuffling : No Is Question Mandatory : No Calculator : None Response Time : N.A Think Time : N.A Minimum Instruction Time : 0

Correct Marks : 5 Wrong Marks : 1

Question Key Details :

Key	Value
Comprehension	MCQ

پہلی انڈونوکلیس (Endonuclease) رستریکشن پابندی کون سی ایجاد کی گئی

1. *EcoRI*
2. *BamH I*
3. *Hind II*
4. *Pst I*

Options :

485584145649. 1
485584145650. 2
485584145651. 3
485584145652. 4

Question Number : 29 Question Id : 48558436414 Question Type : MCQ Option Shuffling : No Is Question Mandatory : No Calculator : None Response Time : N.A Think Time : N.A Minimum Instruction Time : 0

Correct Marks : 5 Wrong Marks : 1

Question Key Details :

Key	Value
Comprehension	MCQ

The correct sequence of steps to obtain gene of interest from pool of DNA is:

- A. Cutting of DNA using restriction endonuclease.
- B. Viewing the ethidium bromide stained gel under UV light.
- C. Loading of DNA in wells.
- D. Cutting and extraction of DNA piece from gel.
- E. Separation of DNA fragments according to their molecular size.

Choose the correct answer from the options given below:

1. A, C, E, B, D
2. A, D, C, B, E
3. E, D, B, C, A
4. D, E, C, A, B

Options :

485584145653. 1
485584145654. 2
485584145655. 3
485584145656. 4

Question Number : 29 Question Id : 48558436414 Question Type : MCQ Option Shuffling : No Is Question Mandatory : No Calculator : None Response Time : N.A Think Time : N.A Minimum Instruction Time : 0

Correct Marks : 5 Wrong Marks : 1

Question Key Details :

Key	Value
Comprehension	MCQ

ڈی این پول سے مطلوبہ جین کو حاصل کرنے کے اقدامات کو صحیح تواتر سے ترتیب دیں

- A. پابند انٹونیوکلس کا استعمال کرتے ہوئے DNA کاٹنا
- B. یو وی روشنی کے نیچے ایٹھیم برومائیڈ اسٹینڈ جیل کو دیکھنا
- C. ویلس میں ڈی این اے کو لوڈ کرنا
- D. جیل سے Gel سے DNA کے ٹکڑے کو نکالنا اور کٹ کرنا
- E. ڈی این اے کو ان مالکیولر سائز کے مطابق الگ الگ کرنا

دیے گئے زمروں میں سے درست جواب کا انتخاب کریں

1. A, C, E, B, D
2. A, D, C, B, E
3. E, D, B, C, A
4. D, E, C, A, B

Options :

485584145653. 1
485584145654. 2
485584145655. 3
485584145656. 4

Question Number : 30 Question Id : 48558436415 Question Type : MCQ Option Shuffling : No Is Question Mandatory : No Calculator : None Response Time : N.A Think Time : N.A Minimum Instruction Time : 0

Correct Marks : 5 Wrong Marks : 1

Question Key Details :

Key	Value
Comprehension	MCQ

Over 95% of all existing transgenic animals are:

1. Mice
2. Goat
3. Rabbit
4. Pig

Options :

485584145657. 1
485584145658. 2
485584145659. 3
485584145660. 4

Question Number : 30 Question Id : 48558436415 Question Type : MCQ Option Shuffling : No Is Question Mandatory : No Calculator : None Response Time : N.A Think Time : N.A Minimum Instruction Time : 0

Correct Marks : 5 Wrong Marks : 1

Question Key Details :

Key	Value
Comprehension	MCQ

تمام موجود 95% ٹرانسجینک جاندار ہیں۔

1. چوہے
2. بکری
3. خرگوش
4. سور

Options :

485584145657. 1
485584145658. 2
485584145659. 3
485584145660. 4

Question Number : 31 Question Id : 48558436416 Question Type : MCQ Option Shuffling : No Is Question Mandatory : No Calculator : None Response Time : N.A Think Time : N.A Minimum Instruction Time : 0

Correct Marks : 5 Wrong Marks : 1

Question Key Details :

Key	Value
Comprehension	MCQ

A novel strategy to prevent infestation of roots of tobacco plant with the nematode *Meloidegryne incognitia* is :

1. DNA interference
2. DNA-RNA interference
3. RNA interference
4. RNA-Protein interference

Options :

485584145661. 1
485584145662. 2
485584145663. 3
485584145664. 4

Question Number : 31 Question Id : 48558436416 Question Type : MCQ Option Shuffling : No Is Question Mandatory : No Calculator : None Response Time : N.A Think Time : N.A Minimum Instruction Time : 0

Correct Marks : 5 Wrong Marks : 1

Question Key Details :

Key	Value
Comprehension	MCQ

نیماتوڈا کیچورا میلیو ڈیجائن انکو گینٹیٹہ (*Meloidegryne incognitia*) کو ساتھ ملا کر تمباکو کے پودے کی جڑوں کی کٹر / بجوم سے بچنے کے لیے نئی حکمت عملی تیار کی گئی اسے کیا کہتے ہیں۔

1. ڈی این اے (DNA) مداخلت
2. DNA-RNA مداخلت
3. RNA مداخلت
4. آر این اے (RNA) پروٹین مداخلت

Options :

485584145661. 1
485584145662. 2
485584145663. 3
485584145664. 4

Question Number : 32 Question Id : 48558436417 Question Type : MCQ Option Shuffling : No Is Question Mandatory : No Calculator : None Response Time : N.A Think Time : N.A Minimum Instruction Time : 0

Correct Marks : 5 Wrong Marks : 1

Question Key Details :

Key	Value
Comprehension	MCQ

Match List I with List II

LIST I		LIST II	
A.	<i>Bacillus thuringiensis</i>	I.	Synthetic Human Insulin
B.	<i>Agrobacterium</i>	II.	ADA gene therapy
C.	<i>E. Coli</i>	III.	Cry gene
D.	Retroviral Vector	IV.	Vector carrying nematode-specific genes

Choose the correct answer from the options given below:

1. A-III, B-IV, C-I, D-II
2. A-II, B-I, C-III, D-IV
3. A-I, B-III, C-IV, D-II
4. A-IV, B-II, C-I, D-III

Options :

485584145665. 1
485584145666. 2
485584145667. 3
485584145668. 4

Question Number : 32 Question Id : 48558436417 Question Type : MCQ Option Shuffling : No Is Question Mandatory : No Calculator : None Response Time : N.A Think Time : N.A Minimum Instruction Time : 0

Correct Marks : 5 Wrong Marks : 1

Question Key Details :

Key	Value
Comprehension	MCQ

فہرست I کو فہرست II سے ملائیں

فہرست II		فہرست I	
سائنتھٹک انسانی انسولین	.I	بیسولس ٹھیورینڈجیسس (<i>Bacillus thuringiensis</i>)	.A
جین تھیراپی ADA	.II	ایگرو بیکنڈیریم (<i>Agrobacterium</i>)	.B
کرائی جین (Cry gene)	.III	ای۔ کولی (<i>E. Coli</i>)	.C
ویکٹر کیجوے کے خاص جینس کے ساتھ	.IV	ریٹروویرل ویکٹر (Retroviral Vector)	.D

دیے گئے زمروں میں سے درست جواب کا انتخاب کریں۔

1. A-III, B-IV, C-I, D-II
2. A-II, B-I, C-III, D-IV
3. A-I, B-III, C-IV, D-II
4. A-IV, B-II, C-I, D-III

Options :

485584145665. 1
485584145666. 2
485584145667. 3
485584145668. 4

Question Number : 33 Question Id : 48558436418 Question Type : MCQ Option Shuffling : No Is Question Mandatory : No Calculator : None Response Time : N.A Think Time : N.A Minimum Instruction Time : 0

Correct Marks : 5 Wrong Marks : 1

Question Key Details :

Key	Value
Comprehension	MCQ

Identify the commensalism from the following associations:

1. Fungi and roots of higher plants.
2. Cuckoo and crow during breeding season
3. Fig species and wasp
4. Sea anemone and clown fish

Options :

485584145669. 1
485584145670. 2
485584145671. 3
485584145672. 4

Question Number : 33 Question Id : 48558436418 Question Type : MCQ Option Shuffling : No Is Question Mandatory : No Calculator : None Response Time : N.A Think Time : N.A Minimum Instruction Time : 0

Correct Marks : 5 Wrong Marks : 1

Question Key Details :

Key	Value
Comprehension	MCQ

مندرجہ ذیل ایسو سی ایشن میں مشترکات کی نشاندہی کریں۔

1. فنجاءى اور بڑے پودوں کی جڑیں
2. کوکو اور کوا افزائشی سیشن کے دوران
3. مچھلی کی قسمیں اور تتیا
4. سمندری انیمون اور کلون مچھلی

Options :

485584145669. 1
485584145670. 2
485584145671. 3
485584145672. 4

Question Number : 34 Question Id : 48558436419 Question Type : MCQ Option Shuffling : No Is Question Mandatory : No Calculator : None Response Time : N.A Think Time : N.A Minimum Instruction Time : 0

Correct Marks : 5 Wrong Marks : 1

Question Key Details :

Key	Value
Comprehension	MCQ

Select the organisms that can tolerate wide range of temperatures:

1. Eurythermals
2. Stenothermals
3. Conformers
4. Osmoregulators

Options :

485584145673. 1
485584145674. 2
485584145675. 3
485584145676. 4

Question Number : 34 Question Id : 48558436419 Question Type : MCQ Option Shuffling : No Is Question Mandatory : No Calculator : None Response Time : N.A Think Time : N.A Minimum Instruction Time : 0

Correct Marks : 5 Wrong Marks : 1

Question Key Details :

Key	Value
Comprehension	MCQ

اس جاندار کو چنیں جو درجہ حرارت کی وسیع رینج کو سہہ سکتا ہو۔

1. (Eurythermals) ایوریتھرمل
2. (Stenothermals) اسٹینوتھرمل
3. (Conformers) کنفارمر
4. (Osmoregulators) اوسمو ریگولیٹر

Options :

485584145673. 1
485584145674. 2
485584145675. 3
485584145676. 4

Question Number : 35 Question Id : 48558436420 Question Type : MCQ Option Shuffling : No Is Question Mandatory : No Calculator : None Response Time : N.A Think Time : N.A Minimum Instruction Time : 0

Correct Marks : 5 Wrong Marks : 1

Question Key Details :

Key	Value
Comprehension	MCQ

The rate of decomposition is controlled by:

1. Chemical composition of detritus only
2. Climatic factors only
3. Both chemical composition of detritus and climatic factors
4. Atmospheric pressure

Options :

485584145677. 1
485584145678. 2
485584145679. 3
485584145680. 4

Question Number : 35 Question Id : 48558436420 Question Type : MCQ Option Shuffling : No Is Question Mandatory : No Calculator : None Response Time : N.A Think Time : N.A Minimum Instruction Time : 0

Correct Marks : 5 Wrong Marks : 1

Question Key Details :

Key	Value
Comprehension	MCQ

گننے/سزنے کی شرح کو کس سے قابو کیا جاتا ہے

1. صرف ڈیٹریٹس (Detritus) کے کیمیائی مرکب سے
2. صرف ماحولیاتی عناصر سے
3. ڈیٹریٹس کے کیمیائی مرکب اور ماحولیاتی عناصر دونوں سے
4. ایٹماسفرک/ ماحولیاتی دباؤ سے

Options :

485584145677. 1
485584145678. 2
485584145679. 3
485584145680. 4

Question Number : 36 Question Id : 48558436421 Question Type : MCQ Option Shuffling : No Is Question Mandatory : No Calculator : None Response Time : N.A Think Time : N.A Minimum Instruction Time : 0

Correct Marks : 5 Wrong Marks : 1

Question Key Details :

Key	Value
Comprehension	MCQ

The Net Primary Productivity (NPP) is :

1. Gross Primary Productivity – Respiration losses
2. Gross Primary Productivity + Respiration losses
3. Gross Primary Productivity × Respiration losses
4. Respiration losses – Gross Primary Productivity

Options :

485584145681. 1
485584145682. 2
485584145683. 3
485584145684. 4

Question Number : 36 Question Id : 48558436421 Question Type : MCQ Option Shuffling : No Is Question Mandatory : No Calculator : None Response Time : N.A Think Time : N.A Minimum Instruction Time : 0

Correct Marks : 5 Wrong Marks : 1

Question Key Details :

Key	Value
Comprehension	MCQ

نیٹ پر ایمری پروٹکشن (NPP) کل بنیادی پیداوار ----- ہے

1. (Respiration) مجموعی بنیادی پیداوار تقریباً سانس لینا/ ریسپیریشن
2. مجموعی بنیادی پیداوار جمع + ریسپیریشن
3. مجموعی بنیادی پیداوار ضرب ریسپیریشن
4. ریسپیریشن تقریباً - مجموعی بنیادی پیداوار

Options :

485584145681. 1
485584145682. 2
485584145683. 3
485584145684. 4

Question Number : 37 Question Id : 48558436422 Question Type : MCQ Option Shuffling : No Is Question Mandatory : No Calculator : None Response Time : N.A Think Time : N.A Minimum Instruction Time : 0

Correct Marks : 5 Wrong Marks : 1

Question Key Details :

Key	Value
Comprehension	MCQ

Which of the following country has the highest biodiversity?

1. Brazil
2. Zimbabwe
3. Russia
4. India

Options :

485584145685. 1
485584145686. 2
485584145687. 3
485584145688. 4

Question Number : 37 Question Id : 48558436422 Question Type : MCQ Option Shuffling : No Is Question Mandatory : No Calculator : None Response Time : N.A Think Time : N.A Minimum Instruction Time : 0

Correct Marks : 5 Wrong Marks : 1

Question Key Details :

Key	Value
Comprehension	MCQ

درج ذیل میں کس ملک میں سب سے زیادہ ہائیو ڈائٹورسٹی ہیں۔

1. برازیل
2. زمبابوے
3. روس
4. انڈیا

Options :

485584145685. 1
485584145686. 2
485584145687. 3
485584145688. 4

Question Number : 38 Question Id : 48558436423 Question Type : MCQ Option Shuffling : No Is Question Mandatory : No Calculator : None Response Time : N.A Think Time : N.A Minimum Instruction Time : 0

Correct Marks : 5 Wrong Marks : 1

Question Key Details :

Key	Value
Comprehension	MCQ

Which of the following species has become extinct due to over exploitation by humans?

1. *Clarias gariepinus*
2. Stellers's sea cow
3. *Lantana*
4. *Parthenium*

Options :

485584145689. 1
485584145690. 2
485584145691. 3
485584145692. 4

Question Number : 38 Question Id : 48558436423 Question Type : MCQ Option Shuffling : No Is Question Mandatory : No Calculator : None Response Time : N.A Think Time : N.A Minimum Instruction Time : 0

Correct Marks : 5 Wrong Marks : 1

Question Key Details :

Key	Value
Comprehension	MCQ

انسانوں کے ناجائز استحصال کی وجہ سے درج ذیل میں کون معدوم ہو گیا ہے

1. کلیر یاس گیر بیینس (*Clarias gariepinus*)
2. اسٹیلر سمندری گائے (*Stellers's sea cow*)
3. لانتانا (*Lantana*)
4. پرتھینیم (*Parthenium*)

Options :

485584145689. 1
485584145690. 2
485584145691. 3
485584145692. 4

Question Number : 39 Question Id : 48558436424 Question Type : MCQ Option Shuffling : No Is Question Mandatory : No Calculator : None Response Time : N.A Think Time : N.A Minimum Instruction Time : 0

Correct Marks : 5 Wrong Marks : 1

Question Key Details :

Key	Value
Comprehension	MCQ

Salts are drawn to the surface of the soil by:

1. Over cultivation
2. Deforestation
3. Water logging
4. Unrestricted grazing

Options :

485584145693. 1
485584145694. 2
485584145695. 3
485584145696. 4

Question Number : 39 Question Id : 48558436424 Question Type : MCQ Option Shuffling : No Is Question Mandatory : No Calculator : None Response Time : N.A Think Time : N.A Minimum Instruction Time : 0

Correct Marks : 5 Wrong Marks : 1

Question Key Details :

Key	Value
Comprehension	MCQ

نمک زمین یا مٹی کی سطح پر کس طرح لایا جاتا ہے

1. زیادہ کھیتی باڑی/ کاشتکاری سے
2. جنگلات کے کٹاؤ سے
3. پانی کو جمع کرنے سے
4. غیر پابند چرواہی سے

Options :

485584145693. 1
485584145694. 2
485584145695. 3
485584145696. 4

Question Number : 40 Question Id : 48558436425 Question Type : MCQ Option Shuffling : No Is Question Mandatory : No Calculator : None Response Time : N.A Think Time : N.A Minimum Instruction Time : 0

Correct Marks : 5 Wrong Marks : 1

Question Key Details :

Key	Value
Comprehension	MCQ

World's most problematic aquatic weed is:

1. Free floating algae
2. *Vallisneria*
3. *Eichhornia crassipes*
4. *Chara*

Options :

485584145697. 1
485584145698. 2
485584145699. 3
485584145700. 4

Question Number : 40 Question Id : 48558436425 Question Type : MCQ Option Shuffling : No Is Question Mandatory : No Calculator : None Response Time : N.A Think Time : N.A Minimum Instruction Time : 0

Correct Marks : 5 Wrong Marks : 1

Question Key Details :

Key	Value
Comprehension	MCQ

دنیا میں سب سے مشکل پیدا کرنی والی گھاس پھوس (Weed) ہے۔

1. فری فلوتنگ ایلگی
2. ویلسنیریا (Vallisneria)
3. ایکورنیا کراسپس (Echhornia crossipes)
4. چرا (Chara)

Options :

485584145697. 1
485584145698. 2
485584145699. 3
485584145700. 4

Sub-Section Number :

2

Sub-Section Id :

4855842691

Question Shuffling Allowed :

No

Is Section Default? :

null

Question Number : 41 Question Id : 48558436426 Question Type : MCQ Option Shuffling : No Is Question Mandatory : No Calculator : None Response Time : N.A Think Time : N.A Minimum Instruction Time : 0

Correct Marks : 5 Wrong Marks : 1

Question Key Details :

Key	Value
Comprehension	Comp1

Read the given paragraph and answer the question:

Humans have 23 pairs of chromosomes. 22 pairs are exactly same in both males and females; these are the autosomes. A pair of X-chromosome are present in the female, whereas the presence of an X and Y chromosome are determinant of the male characteristic.

A number of disorders in human beings have been found to be associated with the inheritance of changed or altered genes or chromosomes. Broadly, genetic disorder may be grouped into two categories-Mendelian disorders and Chromosomal disorders.

What is the probability of having a daughter to a couple expecting their first child?

1. Nil
2. 25%
3. 50%
4. 100%

Options :

485584145701. 1
485584145702. 2
485584145703. 3
485584145704. 4

Question Number : 41 Question Id : 48558436426 Question Type : MCQ Option Shuffling : No Is Question Mandatory : No Calculator : None Response Time : N.A Think Time : N.A Minimum Instruction Time : 0

Correct Marks : 5 Wrong Marks : 1

Question Key Details :

Key	Value
Comprehension	Comp1

دیے گئے اقتباس کو پڑھیں اور سوال 41 سے 45 تک کے جوابات دیں۔

انسانوں کے کروموزوم کے 23 جوڑے ہیں۔ 22 جوڑے مرد (نر) اور عورت (مادہ) میں ایک جیسے ہوتے ہیں یہ ایٹوسومس (Autosomes) ہوتے ہیں۔ ایک X کروموزوم کا جوڑا عورت میں موجود ہوتا ہے جب کہ X اور Y کروموزوم مردانہ کے خصوصیات کا تعین کرتے ہیں۔

انسانوں میں متعدد خرابے وراثت کے تبدیلی یا جین کی تبدیلی یا کروموزوم میں تبدیلی کی وجہ سے پائے گئے۔ وسیع طور پر جینیاتی خرابے یا عارضے دو گروپ میں منقسم کیے جاتے ہیں میڈیلین ٹر آرڈر (Mendelian disorders) اور کروموزوم ٹس آرڈر (Chromosomal disorders) میں۔

ایک جوڑے کی پہلے بچے کی امید میں ایک بیٹی کے پیدا ہونے کے کیا امکان ہیں۔

1. کچھ نہیں (Nil)
2. 25%
3. 50%
4. 100%

Options :

485584145701. 1
485584145702. 2
485584145703. 3
485584145704. 4

Question Number : 42 Question Id : 48558436427 Question Type : MCQ Option Shuffling : No Is Question Mandatory : No Calculator : None Response Time : N.A Think Time : N.A Minimum Instruction Time : 0

Correct Marks : 5 Wrong Marks : 1

Question Key Details :

Key	Value
Comprehension	Comp1

Read the given paragraph and answer the question:

Humans have 23 pairs of chromosomes. 22 pairs are exactly same in both males and females; these are the autosomes. A pair of X-chromosome are present in the female, whereas the presence of an X and Y chromosome are determinant of the male characteristic.

A number of disorders in human beings have been found to be associated with the inheritance of changed or altered genes or chromosomes. Broadly, genetic disorder may be grouped into two categories-Mendelian disorders and Chromosomal disorders.

A disorder caused due to absence of one of the 'X' chromosome is -

1. Turner's Syndrome
2. Down's Syndrome
3. Klinefelter's Syndrome
4. Thalassemia

Options :

485584145705. 1
485584145706. 2
485584145707. 3
485584145708. 4

Question Number : 42 Question Id : 48558436427 Question Type : MCQ Option Shuffling : No Is Question Mandatory : No Calculator : None Response Time : N.A Think Time : N.A Minimum Instruction Time : 0

Correct Marks : 5 Wrong Marks : 1

Question Key Details :

Key	Value
Comprehension	Compl

دیے گئے اقتباس کو پڑھیں اور سوال 41 سے 45 تک کے جوابات دیں۔

انسانوں کے کروموزوم کے 23 جوڑے ہیں۔ 22 جوڑے مرد (نر) اور عورت (مادہ) میں ایک جیسے ہوتے ہیں یہ ایٹوسومس (Autosomes) ہوتے ہیں۔ ایک X کروموزوم کا جوڑا عورت میں موجود ہوتا ہے جب کہ X اور Y کروموزوم مردانہ کے خصوصیات کا تعین کرتے ہیں۔

انسانوں میں متعدد خرابے وراثت کے تبدیلی یا جین کی تبدیلی یا کروموزوم میں تبدیلی کی وجہ سے پائے گئے۔ وسیع طور پر جینیاتی خرابے یا عارضے دو گروپ میں منقسم کیے جاتے ہیں میڈیلین ٹر آرڈر (Mendelian disorders) اور کروموزوم ٹس آرڈر (Chromosomal disorders) میں۔

X ایکس کروموزوم کی غیر موجودگی کی وجہ سے کون سا عارضہ ہو سکتا ہے

1. ٹرنر سنڈروم
2. ڈاؤن سنڈروم
3. لینفیلٹر سنڈروم
4. تھالاسیمیا

Options :

485584145705. 1
485584145706. 2
485584145707. 3
485584145708. 4

Question Number : 43 Question Id : 48558436428 Question Type : MCQ Option Shuffling : No Is Question Mandatory : No Calculator : None Response Time : N.A Think Time : N.A Minimum Instruction Time : 0

Correct Marks : 5 Wrong Marks : 1

Question Key Details :

Key	Value
Comprehension	Compl

Read the given paragraph and answer the question:

Humans have 23 pairs of chromosomes. 22 pairs are exactly same in both males and females; these are the autosomes. A pair of X-chromosome are present in the female, whereas the presence of an X and Y chromosome are determinant of the male characteristic.

A number of disorders in human beings have been found to be associated with the inheritance of changed or altered genes or chromosomes. Broadly, genetic disorder may be grouped into two categories-Mendelian disorders and Chromosomal disorders.

A haemophilic man marries a normal woman. What is the possibility that their child have haemophilia?

1. 75%
2. 25%
3. 0%
4. 50%

Options :

485584145709. 1
485584145710. 2
485584145711. 3
485584145712. 4

Question Number : 43 Question Id : 48558436428 Question Type : MCQ Option Shuffling : No Is Question Mandatory : No Calculator : None Response Time : N.A Think Time : N.A Minimum Instruction Time : 0

Correct Marks : 5 Wrong Marks : 1

Question Key Details :

Key	Value
Comprehension	Compl

دیے گئے اقتباس کو پڑھیں اور سوال 41 سے 45 تک کے جوابات دیں۔

انسانوں کے کروموزوم کے 23 جوڑے ہیں۔ 22 جوڑے مرد (نر) اور عورت (مادہ) میں ایک جیسے ہوتے ہیں یہ ایٹوسومس (Autosomes) ہوتے ہیں۔ ایک X کروموزوم کا جوڑا عورت میں موجود ہوتا ہے جب کہ X اور Y کروموزوم مردانہ کے خصوصیات کا تعین کرتے ہیں۔

انسانوں میں متعدد خرابے وراثت کے تبدیلی یا جین کی تبدیلی یا کروموزوم میں تبدیلی کی وجہ سے پائے گئے۔ وسیع طور پر جینیاتی خرابے یا عارضے دو گروپ میں منقسم کیے جاتے ہیں میڈیلین ڈر آرڈر (Mendelian disorders) اور کروموزوم ڈس آرڈر (Chromosomal disorders) میں۔

ایک جریان (Haemophilic) شخص کی نارمل عورت سے شادی کرتا ہے۔ کیا امکانات ہیں کہ ان کے بچے کو جریان ہوگا۔

1. 75%

2. 25%

3. 0%

4. 50%

Options :

485584145709. 1

485584145710. 2

485584145711. 3

485584145712. 4

Question Number : 44 Question Id : 48558436429 Question Type : MCQ Option Shuffling : No Is Question Mandatory : No Calculator : None Response Time : N.A Think Time : N.A Minimum Instruction Time : 0

Correct Marks : 5 Wrong Marks : 1

Question Key Details :

Key	Value
Comprehension	Comp1

Read the given paragraph and answer the question:

Humans have 23 pairs of chromosomes. 22 pairs are exactly same in both males and females; these are the autosomes. A pair of X-chromosome are present in the female, whereas the presence of an X and Y chromosome are determinant of the male characteristic.

A number of disorders in human beings have been found to be associated with the inheritance of changed or altered genes or chromosomes. Broadly, genetic disorder may be grouped into two categories-Mendelian disorders and Chromosomal disorders.

Which of the following is an example of a sex linked disease?

1. Ascariasis

2. Colour blindness

3. Thalassemia

4. Phenylketonuria

Options :

485584145713. 1

485584145714. 2

485584145715. 3

485584145716. 4

Question Number : 44 Question Id : 48558436429 Question Type : MCQ Option Shuffling : No Is Question Mandatory : No Calculator : None Response Time : N.A Think Time : N.A Minimum Instruction Time : 0

Correct Marks : 5 Wrong Marks : 1

Question Key Details :

Key	Value
Comprehension	Compl

دیے گئے اقتباس کو پڑھیں اور سوال 41 سے 45 تک کے جوابات دیں۔

انسانوں کے کروموزوم کے 23 جوڑے ہیں۔ 22 جوڑے مرد (نر) اور عورت (مادہ) میں ایک جیسے ہوتے ہیں یہ ایٹوسومس (Autosomes) ہوتے ہیں۔ ایک X کروموزوم کا جوڑا عورت میں موجود ہوتا ہے جب کہ X اور Y کروموزوم مردانہ کے خصوصیات کا تعین کرتے ہیں۔

انسانوں میں متعدد خرابے وراثت کے تبدیلی یا جین کی تبدیلی یا کروموزوم میں تبدیلی کی وجہ سے پائے گئے۔ وسیع طور پر جینیاتی خرابے یا عارضے دو گروپ میں منقسم کیے جاتے ہیں میڈیلین ڈر آرڈر (Mendelian disorders) اور کروموزوم ڈس آرڈر (Chromosomal disorders) میں۔

درج ذیل میں کون جنس سے جڑی بیماری ہے

1. ایسکیرائیسس (Ascariasis)
2. رنگوں کی پہچان نہ کر سکنے والی بیماری
3. تھالسمیا (Thalassemia)
4. فینائلکیٹورنیا (Phenylketonuria)

Options :

485584145713. 1
485584145714. 2
485584145715. 3
485584145716. 4

Question Number : 45 Question Id : 48558436430 Question Type : MCQ Option Shuffling : No Is Question Mandatory : No Calculator : None Response Time : N.A Think Time : N.A Minimum Instruction Time : 0

Correct Marks : 5 Wrong Marks : 1

Question Key Details :

Key	Value
Comprehension	Compl

Read the given paragraph and answer the question:

Humans have 23 pairs of chromosomes. 22 pairs are exactly same in both males and females; these are the autosomes. A pair of X-chromosome are present in the female, whereas the presence of an X and Y chromosome are determinant of the male characteristic.

A number of disorders in human beings have been found to be associated with the inheritance of changed or altered genes or chromosomes. Broadly, genetic disorder may be grouped into two categories-Mendelian disorders and Chromosomal disorders.

A colour blind man marries a carrier woman. Choose the possible progeny outcome.

1. All sons are born colourblind, while 50% the daughter born will be normal.
2. All children (sons and daughters) are born colour blind.
3. All daughters are normal whereas 50% of the sons born will be colour blind.
4. 50% of daughters and 50% of sons born will be colour blind.

Options :

485584145717. 1
485584145718. 2
485584145719. 3
485584145720. 4

Question Number : 45 Question Id : 48558436430 Question Type : MCQ Option Shuffling : No Is Question Mandatory : No Calculator : None Response Time : N.A Think Time : N.A Minimum Instruction Time : 0

Correct Marks : 5 Wrong Marks : 1

Question Key Details :

Key	Value
Comprehension	Comp1

دیے گئے اقتباس کو پڑھیں اور سوال 41 سے 45 تک کے جوابات دیں۔

انسانوں کے کروموزوم کے 23 جوڑے ہیں۔ 22 جوڑے مرد (نر) اور عورت (مادہ) میں ایک جیسے ہوتے ہیں یہ ایٹوسومس (Autosomes) ہوتے ہیں۔ ایک X کروموزوم کا جوڑا عورت میں موجود ہوتا ہے جب کہ X اور Y کروموزوم مردانہ کے خصوصیات کا تعین کرتے ہیں۔

انسانوں میں متعدد خرابے وراثت کے تبدیلی یا جین کی تبدیلی یا کروموزوم میں تبدیلی کی وجہ سے پائے گئے۔ وسیع طور پر جینیاتی خرابے یا عارضے دو گروپ میں منقسم کیے جاتے ہیں میڈیلین ٹر آرڈر (Mendelian disorders) اور کروموزوم ٹس آرڈر (Chromosomal disorders) میں۔

ایک رنگوں کی پہچان نہ کر سکنے والا کلرل بلاینڈ شخص ایک کیریئر عورت سے شادی کرتا ہے۔ اولاد کی ممکن صورت حال کیا ہو سکتی ہے۔

1. تمام بیٹے کلر بلاینڈ پیدا ہوں گے جب کہ بیٹیاں نارمل ہوں گی۔
2. تمام بچے (بیٹے اور بیٹیاں) کلر بلاینڈ پیدا ہوں گے۔
3. تمام بیٹیاں نارمل جب کہ بیٹے 50 فی صد کلر بلاینڈ ہوں گے۔
4. 50% بیٹے اور 50% بیٹیاں کلر بلاینڈ پیدا ہوں گی۔

Options :

485584145717. 1
485584145718. 2
485584145719. 3
485584145720. 4

Sub-Section Number :

3

Sub-Section Id :

4855842692

Question Shuffling Allowed :

No

Is Section Default? :

null

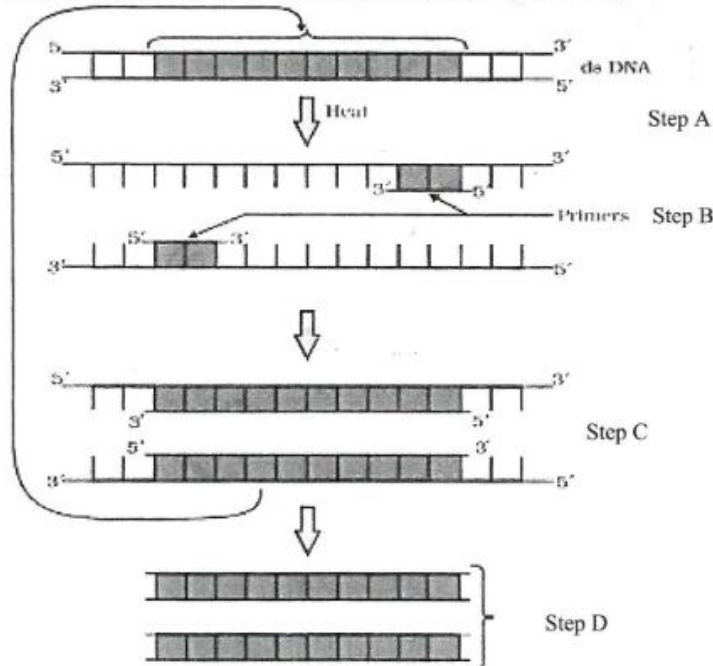
Question Number : 46 Question Id : 48558436431 Question Type : MCQ Option Shuffling : No Is Question Mandatory : No Calculator : None Response Time : N.A Think Time : N.A Minimum Instruction Time : 0

Correct Marks : 5 Wrong Marks : 1

Question Key Details :

Key	Value
Comprehension	Comp2

Answer the questions from the figure given below:



If the reaction starts with one molecule of DNA, the number of cycles required to produce one billion amplified products is:

1. 8 cycles
2. 16 cycles
3. 30 cycles
4. 25 cycles

Options :

- 485584145721. 1
- 485584145722. 2
- 485584145723. 3
- 485584145724. 4

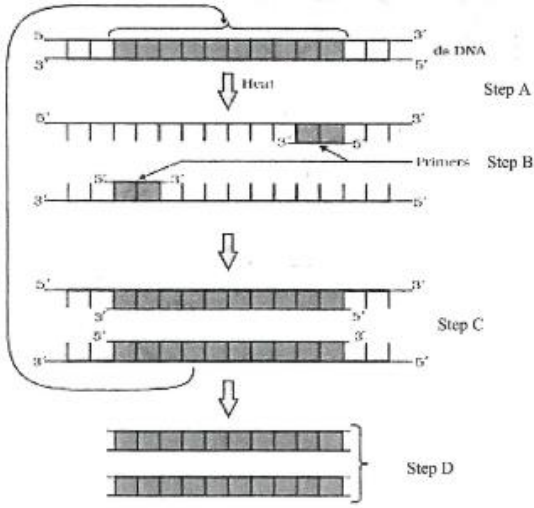
Question Number : 46 Question Id : 48558436431 Question Type : MCQ Option Shuffling : No Is Question Mandatory : No Calculator : None Response Time : N.A Think Time : N.A Minimum Instruction Time : 0

Correct Marks : 5 Wrong Marks : 1

Question Key Details :

Key	Value
-----	-------

Answer the questions from the figure given below:



اگر ری ایکشن 1 DNA ماڈیول سے شروع ہوتی ہے تو اسے کتنے نمبر سائیکل/چکر ضروری ہوں گے 1 بلین پڑھے ہوئے پروڈکٹ پیدا کرنے کے لیے

1. سائیکل 8
2. سائیکل 16
3. سائیکل 30
4. سائیکل 25

Options :

485584145721. 1
 485584145722. 2
 485584145723. 3
 485584145724. 4

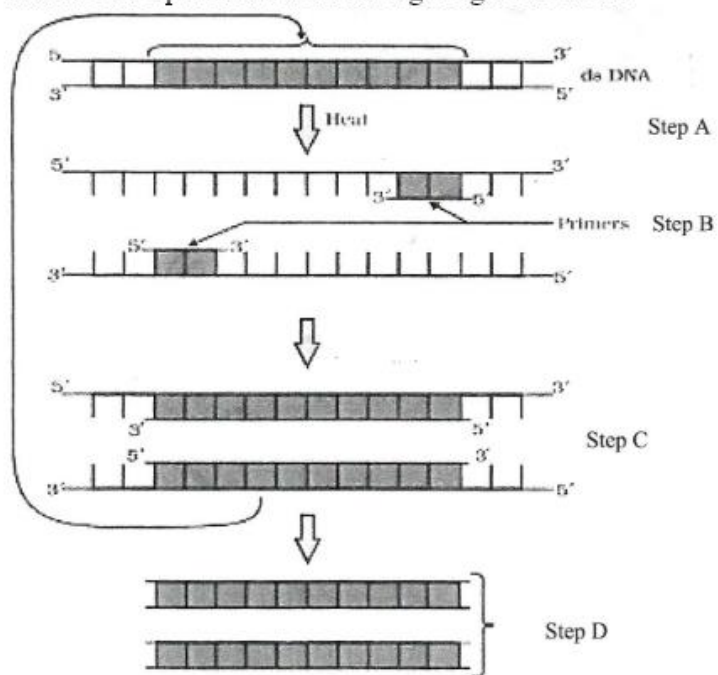
Question Number : 47 Question Id : 48558436432 Question Type : MCQ Option Shuffling : No Is Question Mandatory : No Calculator : None Response Time : N.A Think Time : N.A Minimum Instruction Time : 0

Correct Marks : 5 Wrong Marks : 1

Question Key Details :

Key	Value
Comprehension	Comp2

Answer the questions from the figure given below:



'Taq' in Taq polymerase stands for:

1. *Thermal aqua*
2. *Thermal aquaticus*
3. *Thermas aqua*
4. *Thermus aquaticus*

Options :

- 485584145725. 1
- 485584145726. 2
- 485584145727. 3
- 485584145728. 4

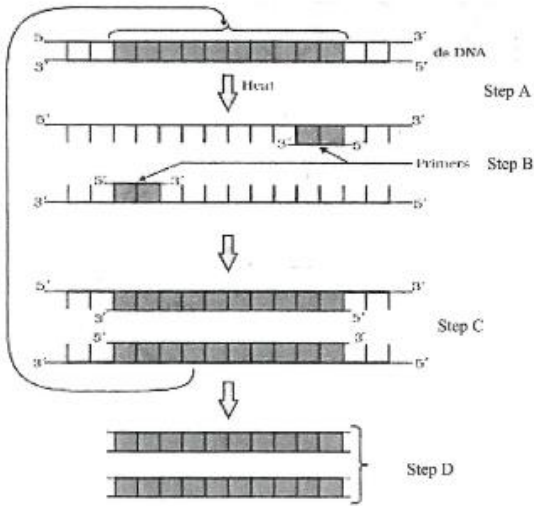
Question Number : 47 Question Id : 48558436432 Question Type : MCQ Option Shuffling : No Is Question Mandatory : No Calculator : None Response Time : N.A Think Time : N.A Minimum Instruction Time : 0

Correct Marks : 5 Wrong Marks : 1

Question Key Details :

Key	Value
Comprehension	Comp2

Answer the questions from the figure given below:



ٹاک (Taq) ٹاک پولیمرس (Taq polymers) میں کس کا مخفف ہے یا عیاں کرتا ہے

1. تھرمل ایگوا (Thermal aqua)
2. تھرمل ایگواتیکس (Thermal aquaticus)
3. تھرماس ایگوا (Thermas aqua)
4. تھرمس ایگواتیکس (Thermus aquaticus)

Options :

485584145725. 1
 485584145726. 2
 485584145727. 3
 485584145728. 4

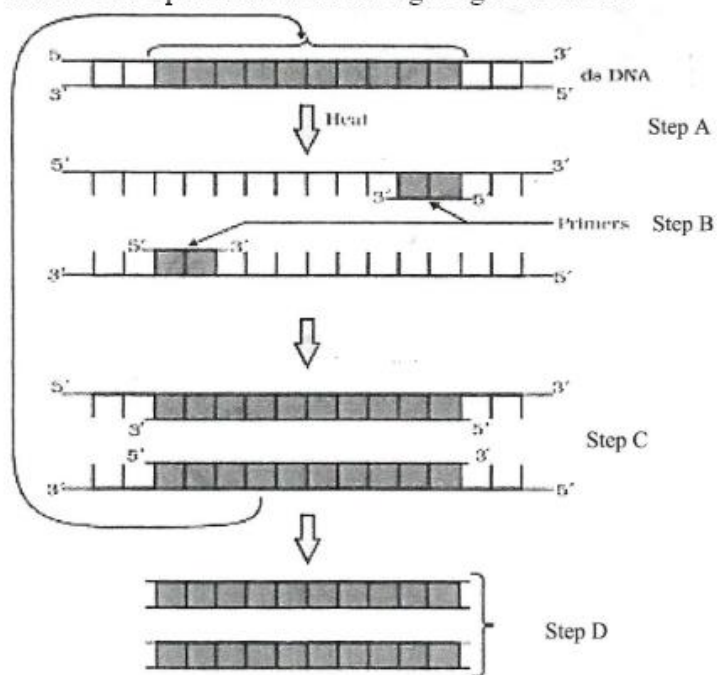
Question Number : 48 Question Id : 48558436433 Question Type : MCQ Option Shuffling : No Is Question Mandatory : No Calculator : None Response Time : N.A Think Time : N.A Minimum Instruction Time : 0

Correct Marks : 5 Wrong Marks : 1

Question Key Details :

Key	Value
Comprehension	Comp2

Answer the questions from the figure given below:



Taq polymerase is the preferred DNA polymerase in PCR because :

1. It is obtained from a fast breeding bacteria.
2. It can bind with the primers efficiently.
3. It remains active during high temperature.
4. It has high turnover rate.

Options :

- 485584145729. 1
- 485584145730. 2
- 485584145731. 3
- 485584145732. 4

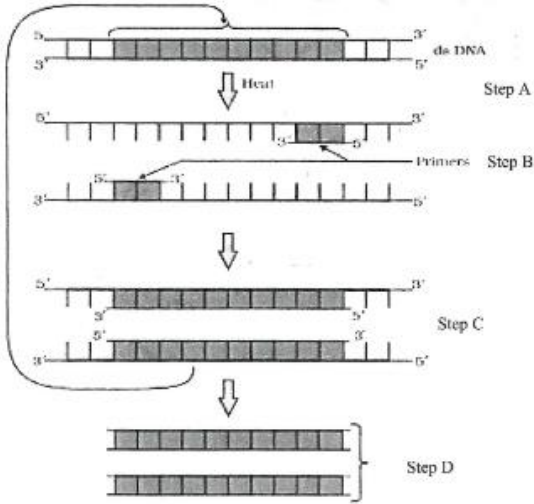
Question Number : 48 Question Id : 48558436433 Question Type : MCQ Option Shuffling : No Is Question Mandatory : No Calculator : None Response Time : N.A Think Time : N.A Minimum Instruction Time : 0

Correct Marks : 5 Wrong Marks : 1

Question Key Details :

Key	Value
Comprehension	Comp2

Answer the questions from the figure given below:



ٹاک پولیمرس (Taq polymers) ترجیحی ڈی این اے پولیمرس PCR میں اس لیے

1. یہ جلدی پیدا ہونے والے بیگٹیریا سے حاصل کیے جاتے ہیں۔
2. یہ باندھے جا سکتے ہیں بنیاد (Primers) سے موثر طور پر۔
3. یہ زیادہ درجہ حرارت کے دوران سرگرم رہتے ہیں۔
4. ان کا زیادہ Turn over / نتائج کی شرح ہے۔

Options :

- 485584145729. 1
- 485584145730. 2
- 485584145731. 3
- 485584145732. 4

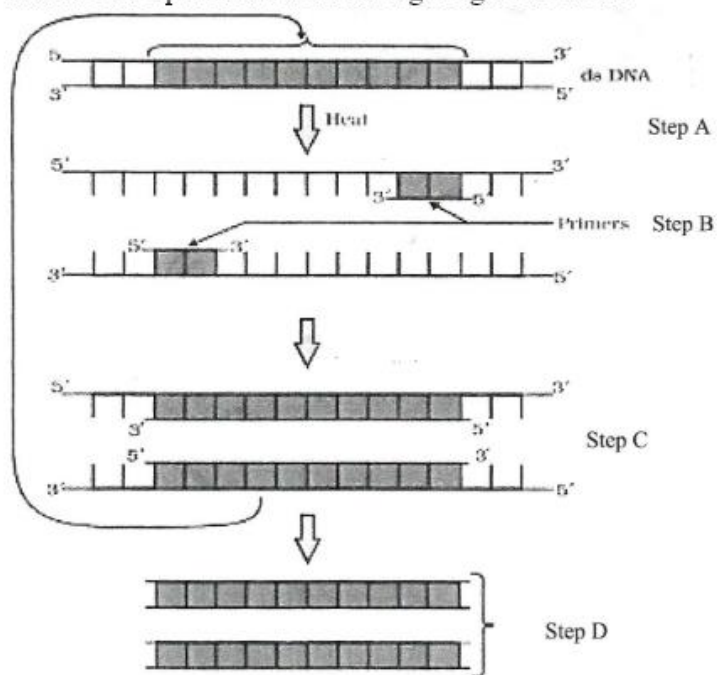
Question Number : 49 Question Id : 48558436434 Question Type : MCQ Option Shuffling : No Is Question Mandatory : No Calculator : None Response Time : N.A Think Time : N.A Minimum Instruction Time : 0

Correct Marks : 5 Wrong Marks : 1

Question Key Details :

Key	Value
Comprehension	Comp2

Answer the questions from the figure given below:



The step 'D' in the figure depicts:

1. Region where the restriction enzyme cuts.
2. An important gene of interest
3. Primer joining region
4. Only amplified product

Options :

- 485584145733. 1
- 485584145734. 2
- 485584145735. 3
- 485584145736. 4

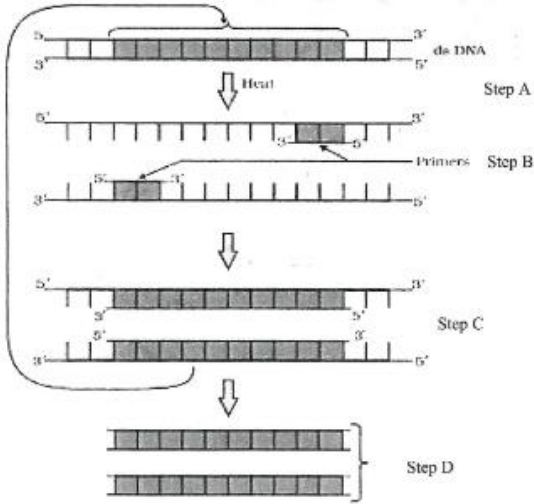
Question Number : 49 Question Id : 48558436434 Question Type : MCQ Option Shuffling : No Is Question Mandatory : No Calculator : None Response Time : N.A Think Time : N.A Minimum Instruction Time : 0

Correct Marks : 5 Wrong Marks : 1

Question Key Details :

Key	Value
Comprehension	Comp2

Answer the questions from the figure given below:



تصویر میں مرحلہ D دکھاتا ہے۔

1. جگہ جہاں پر پابند انزائم کٹ جاتے ہیں۔
2. مطلوبہ ایک اہم جین
3. بنیادی جڑنے کی جگہ
4. صرف بڑھے ہوئے پروٹیکٹ

Options :

485584145733. 1
485584145734. 2
485584145735. 3
485584145736. 4

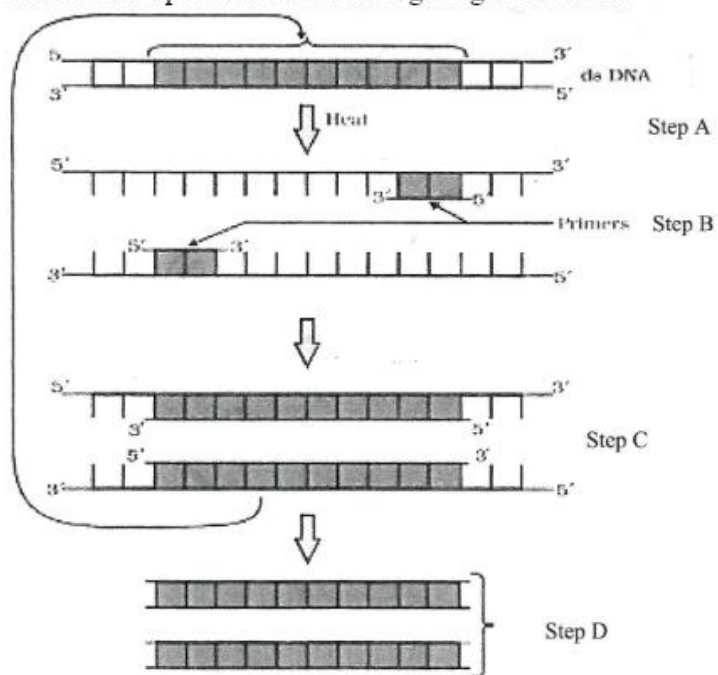
Question Number : 50 Question Id : 48558436435 Question Type : MCQ Option Shuffling : No Is Question Mandatory : No Calculator : None Response Time : N.A Think Time : N.A Minimum Instruction Time : 0

Correct Marks : 5 Wrong Marks : 1

Question Key Details :

Key	Value
Comprehension	Comp2

Answer the questions from the figure given below:



The step 'B' in the figure is called as:

1. Termination
2. Extension
3. Annealing
4. Reannealing

Options :

- 485584145737. 1
- 485584145738. 2
- 485584145739. 3
- 485584145740. 4

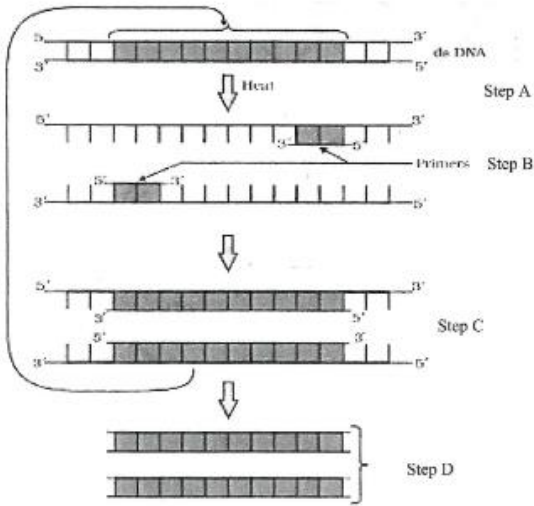
Question Number : 50 Question Id : 48558436435 Question Type : MCQ Option Shuffling : No Is Question Mandatory : No Calculator : None Response Time : N.A Think Time : N.A Minimum Instruction Time : 0

Correct Marks : 5 Wrong Marks : 1

Question Key Details :

Key	Value
Comprehension	Comp2

Answer the questions from the figure given below:



تصویر میں step B مرحلہ B کہا جاتا ہے۔

1. (Termination) خاتمہ
2. (Extension) توسیع
3. (Annealing) آنچ دینا/ سرگرم کرنا
4. (Reannealing) دوبارہ آنچ دینا

Options :

485584145737. 1
485584145738. 2
485584145739. 3
485584145740. 4

Business Studies

Group Number :	3
Group Id :	485584823
Group Maximum Duration :	45
Group Minimum Duration :	45
Show Attended Group? :	No
Edit Attended Group? :	No
Break time :	0
Group Marks :	200
Is this Group for Examiner? :	No
Examiner permission :	Cant View
Show Progress Bar? :	No

Business Studies

Section Id : 485584947

Section Number :	1
Section type :	Online
Mandatory or Optional :	Mandatory
Number of Questions :	50
Number of Questions to be attempted :	40
Section Marks :	200
Enable Mark as Answered Mark for Review and Clear Response :	Yes
Maximum Instruction Time :	0
Sub-Section Number :	1
Sub-Section Id :	4855842693
Question Shuffling Allowed :	Yes
Is Section Default? :	null

Question Number : 51 Question Id : 48558436436 Question Type : MCQ Option Shuffling : No Is Question Mandatory : No Calculator : None Response Time : N.A Think Time : N.A Minimum Instruction Time : 0
Correct Marks : 5 Wrong Marks : 1

Question Key Details :

Key	Value
Comprehension	MCQ

Which of the following is not an importance of management ?

1. Management is group activity
2. Management creates a dynamic organization
3. Management helps in the development of society
4. Management increases efficiency

Options :

485584145741. 1
485584145742. 2
485584145743. 3
485584145744. 4

Question Number : 51 Question Id : 48558436436 Question Type : MCQ Option Shuffling : No Is Question Mandatory : No Calculator : None Response Time : N.A Think Time : N.A Minimum Instruction Time : 0
Correct Marks : 5 Wrong Marks : 1

Question Key Details :

Key	Value
Comprehension	MCQ

مندرجہ ذیل میں سے کون مینجمنٹ میں اہم نہیں ہے ؟

1. مینجمنٹ ایک جماعتی سرگرمی ہے۔
2. مینجمنٹ ایک مختلف الجہات تنظیم بنانا ہے۔
3. مینجمنٹ سماج کی ترقی میں مدد کرتا ہے۔
4. مینجمنٹ افسیٹینٹی بڑھاتا ہے۔

Options :

485584145741. 1
485584145742. 2
485584145743. 3
485584145744. 4

Question Number : 52 Question Id : 48558436437 Question Type : MCQ Option Shuffling : No Is Question Mandatory : No Calculator : None Response Time : N.A Think Time : N.A Minimum Instruction Time : 0

Correct Marks : 5 Wrong Marks : 1

Question Key Details :

Key	Value
Comprehension	MCQ

Mc.Donalds, the fast food giant made major changes in its menu to be able to survive in Indian market. Which feature of management is reflected in above case ?

1. Management is an intangible force
2. Management is a dynamic function
3. Management is all pervasive
4. Management is multidimensional

Options :

485584145745. 1
485584145746. 2
485584145747. 3
485584145748. 4

Question Number : 52 Question Id : 48558436437 Question Type : MCQ Option Shuffling : No Is Question Mandatory : No Calculator : None Response Time : N.A Think Time : N.A Minimum Instruction Time : 0

Correct Marks : 5 Wrong Marks : 1

Question Key Details :

Key	Value
Comprehension	MCQ

میک ڈونالڈ جو فاسٹ فوڈ کی ایک بڑی کمپنی ہے، ہندوستان مارکیٹ میں برقرار رہنے کے لئے اپنے مینو میں تبدیلیاں کیں۔ مینجمنٹ کے کس خاصیت کو مذکورہ بالا صورت میں بیان کیا گیا ہے ؟

1. مینجمنٹ ایک مشکل الفہم طاقت ہے۔
2. مینجمنٹ ایک مختلف الجہات عمل ہے۔
3. مینجمنٹ ہر طرف ہے۔
4. مینجمنٹ بہت سارے پہلوؤں والا ہے۔

Options :

485584145745. 1
485584145746. 2
485584145747. 3
485584145748. 4

Question Number : 53 Question Id : 48558436438 Question Type : MCQ Option Shuffling : No Is Question Mandatory : No Calculator : None Response Time : N.A Think Time : N.A Minimum Instruction Time : 0

Correct Marks : 5 Wrong Marks : 1

Question Key Details :

Key	Value
Comprehension	MCQ

"Planning is an Activity which enables a manager to look ahead and anticipate changes." Identify the point of Importance of Planning.

1. Planning reduces the risk of uncertainty
2. Planning facilitates decision making
3. Planning establishes standards for controlling
4. Planning provide directions

Options :

485584145749. 1
485584145750. 2
485584145751. 3
485584145752. 4

Question Number : 53 Question Id : 48558436438 Question Type : MCQ Option Shuffling : No Is Question Mandatory : No Calculator : None Response Time : N.A Think Time : N.A Minimum Instruction Time : 0

Correct Marks : 5 Wrong Marks : 1

Question Key Details :

Key	Value
Comprehension	MCQ

پلاننگ (منصوبہ بندی) ایک ایسی سرگرمی ہے جو مینجر کو آگے دیکھنے اور آنے والے تبدیلیوں کے سمجھ کے قابل بناتی ہے۔

1. منصوبہ بندی سے یقینی کے خطرے کو کم کر دیتی ہے۔
2. منصوبہ بندی فیصلہ کنی کی سہولت فراہم کرتا ہے۔
3. منصوبہ بندی کنٹرولنگ کے معیار طے کرتا ہے۔
4. منصوبہ بندی ہدایات فراہم کرتا ہے۔

Options :

485584145749. 1
485584145750. 2
485584145751. 3
485584145752. 4

Question Number : 54 Question Id : 48558436439 Question Type : MCQ Option Shuffling : No Is Question Mandatory : No Calculator : None Response Time : N.A Think Time : N.A Minimum Instruction Time : 0

Correct Marks : 5 Wrong Marks : 1

Question Key Details :

Key	Value
Comprehension	MCQ

Ravi is working as supervisor with Zinc limited. Identify the level of management at which Ravi is employed.

1. Top Management
2. Middle Management
3. Operational Management
4. Apex Management

Options :

485584145753. 1
485584145754. 2
485584145755. 3
485584145756. 4

Question Number : 54 Question Id : 48558436439 Question Type : MCQ Option Shuffling : No Is Question Mandatory : No Calculator : None Response Time : N.A Think Time : N.A Minimum Instruction Time : 0

Correct Marks : 5 Wrong Marks : 1

Question Key Details :

Key	Value
Comprehension	MCQ

روی زنک لمیٹڈ میں سوپروائزر کے طور پر کام کر رہا ہے انتظامیہ کے اس لیول کی شناخت کریں روی جس لیول پر ملازم ہے:

1. اعلیٰ انتظامیہ
2. اوسط انتظامیہ
3. عملی انتظامیہ
4. ایکس انتظامیہ

Options :

485584145753. 1
485584145754. 2
485584145755. 3
485584145756. 4

Question Number : 55 Question Id : 48558436440 Question Type : MCQ Option Shuffling : No Is Question Mandatory : No Calculator : None Response Time : N.A Think Time : N.A Minimum Instruction Time : 0

Correct Marks : 5 Wrong Marks : 1

Question Key Details :

Key	Value
Comprehension	MCQ

In this type of Organizational structure, the cost may increase since there may be a duplication of activities across products. Identify the organizational structure.

1. Functional Structure
2. Delegated Structure
3. Divisional Structure
4. Informal Structure

Options :

485584145757. 1
485584145758. 2
485584145759. 3
485584145760. 4

Question Number : 55 Question Id : 48558436440 Question Type : MCQ Option Shuffling : No Is Question Mandatory : No Calculator : None Response Time : N.A Think Time : N.A Minimum Instruction Time : 0

Correct Marks : 5 Wrong Marks : 1

Question Key Details :

Key	Value
Comprehension	MCQ

اس طرح کے تنظیمی ڈھانچہ میں لاگت بڑھ سکتی ہے کیونکہ پروڈکٹ سے متعلق سرگرمیاں دوہری ہو سکتی ہیں۔

1. فنکشنل اسٹرکچر
2. ڈیلیگٹیڈ اسٹرکچر
3. ڈیویژنل اسٹرکچر
4. انفارمل اسٹرکچر

Options :

485584145757. 1
485584145758. 2
485584145759. 3
485584145760. 4

Question Number : 56 Question Id : 48558436441 Question Type : MCQ Option Shuffling : No Is Question Mandatory : No Calculator : None Response Time : N.A Think Time : N.A Minimum Instruction Time : 0

Correct Marks : 5 Wrong Marks : 1

Question Key Details :

Key	Value
Comprehension	MCQ

Divisional Structure is based on _____.

1. Product Lines
2. Functional Lines
3. Informal Basis
4. Occupational Specialization

Options :

485584145761. 1
485584145762. 2
485584145763. 3
485584145764. 4

Question Number : 56 Question Id : 48558436441 Question Type : MCQ Option Shuffling : No Is Question Mandatory : No Calculator : None Response Time : N.A Think Time : N.A Minimum Instruction Time : 0

Correct Marks : 5 Wrong Marks : 1

Question Key Details :

Key	Value
Comprehension	MCQ

ڈیویژنل اسٹرکچر پر مبنی ہے۔

1. پروڈکٹ لائنس
2. فنکشنل لائنس
3. غیر رسمی بنیاد
4. پیشہ ورانہ مہارت

Options :

485584145761. 1
485584145762. 2
485584145763. 3
485584145764. 4

Question Number : 57 Question Id : 48558436442 Question Type : MCQ Option Shuffling : No Is Question Mandatory : No Calculator : None Response Time : N.A Think Time : N.A Minimum Instruction Time : 0

Correct Marks : 5 Wrong Marks : 1

Question Key Details :

Key	Value
Comprehension	MCQ

_____ can be delegated.

1. Responsibility
2. Authority
3. Accountability
4. Answerability

Options :

485584145765. 1
485584145766. 2
485584145767. 3
485584145768. 4

Question Number : 57 Question Id : 48558436442 Question Type : MCQ Option Shuffling : No Is Question Mandatory : No Calculator : None Response Time : N.A Think Time : N.A Minimum Instruction Time : 0

Correct Marks : 5 Wrong Marks : 1

Question Key Details :

Key	Value
Comprehension	MCQ

----- کو ماتحتوں کے سپرد کیا جا سکتا ہے۔

1. ذمہ داری
2. اتھارٹی
3. جوابدہی
4. آنسیر بلٹی

Options :

485584145765. 1
485584145766. 2
485584145767. 3
485584145768. 4

Question Number : 58 Question Id : 48558436443 Question Type : MCQ Option Shuffling : No Is Question Mandatory : No Calculator : None Response Time : N.A Think Time : N.A Minimum Instruction Time : 0

Correct Marks : 5 Wrong Marks : 1

Question Key Details :

Key	Value
Comprehension	MCQ

_____ Test is a measure of individuals potential for learning new skills.

1. Trade tests
2. Personality tests
3. Aptitude tests
4. Intelligence tests

Options :

485584145769. 1
485584145770. 2
485584145771. 3
485584145772. 4

Question Number : 58 Question Id : 48558436443 Question Type : MCQ Option Shuffling : No Is Question Mandatory : No Calculator : None Response Time : N.A Think Time : N.A Minimum Instruction Time : 0

Correct Marks : 5 Wrong Marks : 1

Question Key Details :

Key	Value
Comprehension	MCQ

..... جانچ افراد کی نئے ہنر سیکھنے کی اہلیت کی پیمائش کرتا ہے۔

1. ٹریڈ ٹیسٹ
2. شخصیت کی جانچ
3. صلاحیت کی جانچ
4. ذہانت جانچ

Options :

485584145769. 1
485584145770. 2
485584145771. 3
485584145772. 4

Question Number : 59 Question Id : 48558436444 Question Type : MCQ Option Shuffling : No Is Question Mandatory : No Calculator : None Response Time : N.A Think Time : N.A Minimum Instruction Time : 0

Correct Marks : 5 Wrong Marks : 1

Question Key Details :

Key	Value
Comprehension	MCQ

"Many reputed organizations keep a database of unsolicited applications in their offices based on which a list of job-seekers can be prepared and can be screened to fill the vacancies as they arise". Identify the source referred of recruitment above.

1. Direct Recruitment
2. Campus Recruitment
3. Labour Contractors
4. Casual Callers

Options :

485584145773. 1
485584145774. 2
485584145775. 3
485584145776. 4

Question Number : 59 Question Id : 48558436444 Question Type : MCQ Option Shuffling : No Is Question Mandatory : No Calculator : None Response Time : N.A Think Time : N.A Minimum Instruction Time : 0

Correct Marks : 5 Wrong Marks : 1

Question Key Details :

Key	Value
Comprehension	MCQ

”بہت ساری معروف تنظیمیں غیر مطلوبہ درخواستوں کا ڈیٹا بیس اپنے دفتر میں رکھتی ہیں جس کی بنیاد پر ملازمت تلاش کرنے والوں کی ایک فہرست تیار کی جاسکتی ہے اور ضرورت کے ساتھ خالی جگہوں کو پھرنے کیلئے لوگوں کو الگ کیا جاسکتا ہے۔“

مذکورہ بالا عبارت میں بھرتی کے مذکورہ ذریعہ کی نشاندہی کریں؟

1. ڈائریکٹ بحالی
2. کیمپس بحالی
3. مزدور کنٹریکٹر
4. کیڑول کالرز

Options :

485584145773. 1
485584145774. 2
485584145775. 3
485584145776. 4

Question Number : 60 Question Id : 48558436445 Question Type : MCQ Option Shuffling : No Is Question Mandatory : No Calculator : None Response Time : N.A Think Time : N.A Minimum Instruction Time : 0

Correct Marks : 5 Wrong Marks : 1

Question Key Details :

Key	Value
Comprehension	MCQ

It involves shifting of an employee from one job to another, one department to another or from one shift to another, without a substantive change in the responsibilities and status of an employee. It is known as _____.

1. Training
2. Transfer
3. Promotion
4. Development

Options :

485584145777. 1
485584145778. 2
485584145779. 3
485584145780. 4

Question Number : 60 Question Id : 48558436445 Question Type : MCQ Option Shuffling : No Is Question Mandatory : No Calculator : None Response Time : N.A Think Time : N.A Minimum Instruction Time : 0

Correct Marks : 5 Wrong Marks : 1

Question Key Details :

Key	Value
Comprehension	MCQ

یہ ذمہ داریوں میں کوئی خاص تبدیلی کئے بغیر، ایک ملازم کو ایک نوکری سے دوسری نوکری، ایک ڈیپارٹمنٹ سے دوسرے ڈیپارٹمنٹ اور ایک شفٹ سے دوسرے شفٹ، منتقل کرنے سے متعلق ہے۔

1. ٹریننگ
2. ٹرانسفر
3. پرموشن
4. ترقی

Options :

485584145777. 1
485584145778. 2
485584145779. 3
485584145780. 4

Question Number : 61 Question Id : 48558436446 Question Type : MCQ Option Shuffling : No Is Question Mandatory : No Calculator : None Response Time : N.A Think Time : N.A Minimum Instruction Time : 0

Correct Marks : 5 Wrong Marks : 1

Question Key Details :

Key	Value
Comprehension	MCQ

Organizational barriers to communication do not include :

1. Rules and regulations
2. Status
3. Organizational Policy
4. Lack of attention

Options :

485584145781. 1
485584145782. 2
485584145783. 3
485584145784. 4

Question Number : 61 Question Id : 48558436446 Question Type : MCQ Option Shuffling : No Is Question Mandatory : No Calculator : None Response Time : N.A Think Time : N.A Minimum Instruction Time : 0

Correct Marks : 5 Wrong Marks : 1

Question Key Details :

Key	Value
Comprehension	MCQ

مواصلات میں تنظیمی رکاوٹیں شامل نہیں کو

1. اصول و ضوابط
2. مقام و مرتبہ
3. تنظیمی پالیسی
4. توجہ کی کمی

Options :

485584145781. 1
485584145782. 2
485584145783. 3
485584145784. 4

Question Number : 62 Question Id : 48558436447 Question Type : MCQ Option Shuffling : No Is Question Mandatory : No Calculator : None Response Time : N.A Think Time : N.A Minimum Instruction Time : 0

Correct Marks : 5 Wrong Marks : 1

Question Key Details :

Key	Value
Comprehension	MCQ

_____ means giving more autonomy and power to subordinates. This feeling contributes positively to the use of skills and talents in the job performance.

1. Employee Recognition Programme
2. Employee Empowerment
3. Status
4. Job Security

Options :

485584145785. 1
485584145786. 2
485584145787. 3
485584145788. 4

Question Number : 62 Question Id : 48558436447 Question Type : MCQ Option Shuffling : No Is Question Mandatory : No Calculator : None Response Time : N.A Think Time : N.A Minimum Instruction Time : 0

Correct Marks : 5 Wrong Marks : 1

Question Key Details :

Key	Value
Comprehension	MCQ

..... کا مطلب ہے کہ ماتحتوں کو مزید خود مختاری اور طاقت دینا۔ یہ احساس کام کی کارکردگی میں صلاحیتوں اور قابلیتوں کے استعمال پر مثبت اثر ڈالتا ہے۔

1. مزدوروں کے کاوشوں کا اعتراف کا پروگرام
2. ملازم کا طاقتور بنانا
3. مقام و مرتبہ
4. ملازمت کا محفوظ ہونا

Options :

485584145785. 1
485584145786. 2
485584145787. 3
485584145788. 4

Question Number : 63 Question Id : 48558436448 Question Type : MCQ Option Shuffling : No Is Question Mandatory : No Calculator : None Response Time : N.A Think Time : N.A Minimum Instruction Time : 0

Correct Marks : 5 Wrong Marks : 1

Question Key Details :

Key	Value
Comprehension	MCQ

Which type of leader does not believe in the use of power unless it is absolutely essential ?

1. Free-rein / Laissez faire leader
2. Democratic leader
3. Autocratic leader
4. Participative leader

Options :

485584145789. 1
485584145790. 2
485584145791. 3
485584145792. 4

Question Number : 63 Question Id : 48558436448 Question Type : MCQ Option Shuffling : No Is Question Mandatory : No Calculator : None Response Time : N.A Think Time : N.A Minimum Instruction Time : 0

Correct Marks : 5 Wrong Marks : 1

Question Key Details :

Key	Value
Comprehension	MCQ

کس طرح کا لیڈر طاقت کے استعمال میں یقین نہیں رکھتا جب تک وہ انتہائی ضروری نہ ہو جائے۔

1. آزاد حکومت والا لیڈر
2. جمہوری لیڈر
3. آمر
4. اشتراکی لیڈر

Options :

485584145789. 1
485584145790. 2
485584145791. 3
485584145792. 4

Question Number : 64 Question Id : 48558436449 Question Type : MCQ Option Shuffling : No Is Question Mandatory : No Calculator : None Response Time : N.A Think Time : N.A Minimum Instruction Time : 0

Correct Marks : 5 Wrong Marks : 1

Question Key Details :

Key	Value
Comprehension	MCQ

The incentive is offered over and above the wages/salary to the employees is _____.

1. Project Sharing
2. Pay or Allowances
3. Perquisites
4. Bonus

Options :

485584145793. 1
485584145794. 2
485584145795. 3
485584145796. 4

Question Number : 64 Question Id : 48558436449 Question Type : MCQ Option Shuffling : No Is Question Mandatory : No Calculator : None Response Time : N.A Think Time : N.A Minimum Instruction Time : 0

Correct Marks : 5 Wrong Marks : 1

Question Key Details :

Key	Value
Comprehension	MCQ

جو ترغیبات ملازم کی تنخواہ کے علاوہ دی جاتی ہیں وہ ہیں۔

1. پروجیکٹ شیئرنگ
2. پیے یا الاؤنس
3. شرائط
4. بونس

Options :

485584145793. 1
485584145794. 2
485584145795. 3
485584145796. 4

Question Number : 65 Question Id : 48558436450 Question Type : MCQ Option Shuffling : No Is Question Mandatory : No Calculator : None Response Time : N.A Think Time : N.A Minimum Instruction Time : 0

Correct Marks : 5 Wrong Marks : 1

Question Key Details :

Key	Value
Comprehension	MCQ

Ashok went to a shop to buy a tooth paste. The shopkeeper showed him different varieties of toothpaste available in his shop. Ashok took one of them but had an allergy after using it. He later on checked that the product had crossed its expiry date. Which responsibility has Ashok ignored as a customer?

1. Read labels carefully for information such as net weight, price, expiry date etc.
2. Assert that you get a fair deal
3. Ask for a cash memo
4. Avoid waste, littering and contributing to pollution

Options :

485584145797. 1
 485584145798. 2
 485584145799. 3
 485584145800. 4

Question Number : 65 Question Id : 48558436450 Question Type : MCQ Option Shuffling : No Is Question Mandatory : No Calculator : None Response Time : N.A Think Time : N.A Minimum Instruction Time : 0

Correct Marks : 5 Wrong Marks : 1

Question Key Details :

Key	Value
Comprehension	MCQ

اشوک ٹوٹے پیسٹ خریدنے کے لیے ایک دکان پر گیا۔ دکاندار نے اپنی دکان میں موجود مختلف طرح کے ٹوٹے پیسٹ دکھائے۔ اشوک نے ان میں سے ایک لے لیا۔ مگر اس کے استعمال کے بعد اسے الرجی ہو گئی پھر اس نے نفیث کی ٹو پتہ چلا کہ سامان کی مدت استعمال کی تاریخ ختم ہو چکی تھی۔ اشوک نے گراہک کے طور پر کس ذمہ داری سے لاپرواہی برتی؟

1. کل وزن، قیمت، مدت استعمال کی تاریخ وغیرہ جیسے حقائق کو پڑھنے کی ذمہ داری سے
2. ایک صاف و شفاف معاہدہ پر زور ڈالنے کی ذمہ داری سے
3. سامان کا ضیاع، اسے ادھر ادھر پھینکنے اور آلودگی بڑھانے سے بچنے کی ذمہ داری سے
4. قیمت کی لسٹ مانگنے کی ذمہ داری سے

Options :

485584145797. 1
 485584145798. 2
 485584145799. 3
 485584145800. 4

Question Number : 66 Question Id : 48558436451 Question Type : MCQ Option Shuffling : No Is Question Mandatory : No Calculator : None Response Time : N.A Think Time : N.A Minimum Instruction Time : 0

Correct Marks : 5 Wrong Marks : 1

Question Key Details :

Key	Value
Comprehension	MCQ

It is mandatory for the manufacturers to provide information such as ingredients, date of manufacture, price, directions for use, price etc. The consumer right highlighted here is-

1. Right to safety
2. Right to be informed
3. Right to be heard
4. Right to Consumer Education

Options :

485584145801. 1
485584145802. 2
485584145803. 3
485584145804. 4

Question Number : 66 Question Id : 48558436451 Question Type : MCQ Option Shuffling : No Is Question Mandatory : No Calculator : None Response Time : N.A Think Time : N.A Minimum Instruction Time : 0

Correct Marks : 5 Wrong Marks : 1

Question Key Details :

Key	Value
Comprehension	MCQ

مصنوعات بنانے والے کی لئے ضروری ہے کہ وہ اجزا، مصنوعات بننے کی تاریخ، قیمت، استعمال کی رہنمائی وغیرہ جیسے حقائق کی معلومات مہیا کر ائے۔ یہاں حقوق برائے صارفین نمایاں ہے :

1. حق حفاظت
2. حق معلومات
3. سنے جانے کا حق
4. حق تعلیم صارفین

Options :

485584145801. 1
485584145802. 2
485584145803. 3
485584145804. 4

Question Number : 67 Question Id : 48558436452 Question Type : MCQ Option Shuffling : No Is Question Mandatory : No Calculator : None Response Time : N.A Think Time : N.A Minimum Instruction Time : 0

Correct Marks : 5 Wrong Marks : 1

Question Key Details :

Key	Value
Comprehension	MCQ

Net working capital is computed as _____.

1. Gross current assets
2. Gross current assets - total debt
3. Current assets - External debt
4. Current assets - Current liabilities

Options :

485584145805. 1
485584145806. 2
485584145807. 3
485584145808. 4

Question Number : 67 Question Id : 48558436452 Question Type : MCQ Option Shuffling : No Is Question Mandatory : No Calculator : None Response Time : N.A Think Time : N.A Minimum Instruction Time : 0

Correct Marks : 5 Wrong Marks : 1

Question Key Details :

Key	Value
Comprehension	MCQ

نیٹ ورکنگ کیپٹل کا حساب ہوتا ہے۔

1. مجموعی حالیہ جائداد
2. مجموعی حالیہ جائداد سے مکمل قرض کو گھٹا کر
3. حالیہ جائداد سے خارجی قرض گھٹا کر
4. حالیہ جائداد سے حالیہ ادائیگی ذمہ داریوں کو گھٹا کر

Options :

485584145805. 1
485584145806. 2
485584145807. 3
485584145808. 4

Question Number : 68 Question Id : 48558436453 Question Type : MCQ Option Shuffling : No Is Question Mandatory : No Calculator : None Response Time : N.A Think Time : N.A Minimum Instruction Time : 0

Correct Marks : 5 Wrong Marks : 1

Question Key Details :

Key	Value
Comprehension	MCQ

_____ of a company affects both the profitability and the financial risk.

1. Working Capital
2. Capital Structure
3. Fixed Capital
4. Dividend decision

Options :

485584145809. 1
485584145810. 2
485584145811. 3
485584145812. 4

Question Number : 68 Question Id : 48558436453 Question Type : MCQ Option Shuffling : No Is Question Mandatory : No Calculator : None Response Time : N.A Think Time : N.A Minimum Instruction Time : 0

Correct Marks : 5 Wrong Marks : 1

Question Key Details :

Key	Value
Comprehension	MCQ

ایک کمپنی کی پروفیٹبیلٹی اور فائنانشل رسک دونوں کو متاثر کرتی ہے۔

1. ورکنگ کیپٹل (زیر عمل کیپٹل)
2. کیپٹل اسٹرکچر
3. فیکسڈ کیپٹل
4. ڈیویڈنڈ ڈیسیژن

Options :

485584145809. 1
485584145810. 2
485584145811. 3
485584145812. 4

Question Number : 69 Question Id : 48558436454 Question Type : MCQ Option Shuffling : No Is Question Mandatory : No Calculator : None Response Time : N.A Think Time : N.A Minimum Instruction Time : 0

Correct Marks : 5 Wrong Marks : 1

Question Key Details :

Key	Value
Comprehension	MCQ

Identify the decision in which a company has to choose where to invest its resources so that it is able to earn the maximum possible return for their investors.

1. Working capital decision
2. Financing decision
3. Dividend decision
4. Investment decision

Options :

485584145813. 1
485584145814. 2
485584145815. 3
485584145816. 4

Question Number : 69 Question Id : 48558436454 Question Type : MCQ Option Shuffling : No Is Question Mandatory : No Calculator : None Response Time : N.A Think Time : N.A Minimum Instruction Time : 0

Correct Marks : 5 Wrong Marks : 1

Question Key Details :

Key	Value
Comprehension	MCQ

اس فیصلے کی شناخت کریں جس میں کمپنی اس بات کا انتخاب کرتی ہے کہ وہ کہاں سرمایہ کاری کرے کہ وہ زیادہ سے زیادہ اپنے انوسٹمنٹ پر منافع حاصل کر سکے .

1. ورکنگ کیپٹل کا فیصلہ
2. مالی فیصلہ
3. منافع کا فیصلہ
4. انوسٹمنٹ کا فیصلہ

Options :

485584145813. 1
485584145814. 2
485584145815. 3
485584145816. 4

Question Number : 70 Question Id : 48558436455 Question Type : MCQ Option Shuffling : No Is Question Mandatory : No Calculator : None Response Time : N.A Think Time : N.A Minimum Instruction Time : 0

Correct Marks : 5 Wrong Marks : 1

Question Key Details :

Key	Value
Comprehension	MCQ

Select the term that indicates Principles of Management are not rigid prescriptions.

1. Human behaviour
2. Mainly behaviour
3. Contingent
4. Flexible

Options :

485584145817. 1
485584145818. 2
485584145819. 3
485584145820. 4

Question Number : 70 Question Id : 48558436455 Question Type : MCQ Option Shuffling : No Is Question Mandatory : No Calculator : None Response Time : N.A Think Time : N.A Minimum Instruction Time : 0

Correct Marks : 5 Wrong Marks : 1

Question Key Details :

Key	Value
Comprehension	MCQ

اس اصطلاح کی شناخت کیجئے جو یہ بتاتی ہے کہ انتظامیہ کے اصول غیر لچکدار نوشتہ نہیں ہے

1. انسانی رویہ
2. حقیقی رویہ
3. متبادل
4. لچکدار

Options :

485584145817. 1
485584145818. 2
485584145819. 3
485584145820. 4

Question Number : 71 Question Id : 48558436456 Question Type : MCQ Option Shuffling : No Is Question Mandatory : No Calculator : None Response Time : N.A Think Time : N.A Minimum Instruction Time : 0

Correct Marks : 5 Wrong Marks : 1

Question Key Details :

Key	Value
Comprehension	MCQ

" People and materials must be in suitable places at appropriate time for maximum efficiency."

Application of this principle will lead to:

1. Hindrance in the activities of business/factory
2. Increased productivity and efficiency
3. No discrimination against anyone
4. Justice and kindness in the behaviour of managers.

Options :

485584145821. 1
485584145822. 2
485584145823. 3
485584145824. 4

Question Number : 71 Question Id : 48558436456 Question Type : MCQ Option Shuffling : No Is Question Mandatory : No Calculator : None Response Time : N.A Think Time : N.A Minimum Instruction Time : 0

Correct Marks : 5 Wrong Marks : 1

Question Key Details :

Key	Value
Comprehension	MCQ

"زیادہ سے زیادہ حسن کا کردگی کے لیے ضروری ہے کہ افراد اور مواد مناسب جگہ میں مناسب وقت پر ہو۔"
اس اصول کا استعمال سبب بنے گا:

1. بزنس یا فیکٹری کی سرگرمی میں رکاوٹ کا
2. کارکردگی اور پیداوار میں بڑھاؤ کا
3. کسی سے تعصب نہیں
4. منیجر کے رویہ میں رحمدلی اور انصاف کا

Options :

485584145821. 1
485584145822. 2
485584145823. 3
485584145824. 4

Question Number : 72 Question Id : 48558436457 Question Type : MCQ Option Shuffling : No Is Question Mandatory : No Calculator : None Response Time : N.A Think Time : N.A Minimum Instruction Time : 0

Correct Marks : 5 Wrong Marks : 1

Question Key Details :

Key	Value
Comprehension	MCQ

In the principle of Scalar Chain, the shortest route for communication in case of emergency is called:

1. Gang Plank
2. Special route
3. Formal route
4. Protocol

Options :

485584145825. 1
485584145826. 2
485584145827. 3
485584145828. 4

Question Number : 72 Question Id : 48558436457 Question Type : MCQ Option Shuffling : No Is Question Mandatory : No Calculator : None Response Time : N.A Think Time : N.A Minimum Instruction Time : 0

Correct Marks : 5 Wrong Marks : 1

Question Key Details :

Key	Value
Comprehension	MCQ

اسکیلر چین کے اصول کے مطابق، ایمرجنسی کی صورت میں ترسیل کا مختصر ترین راستہ کہا جاتا ہے:

1. گنگ پلنک
2. اسپیشل روٹ
3. فارمل روٹ
4. پروٹوکول

Options :

485584145825. 1
485584145826. 2
485584145827. 3
485584145828. 4

Question Number : 73 Question Id : 48558436458 Question Type : MCQ Option Shuffling : No Is Question Mandatory : No Calculator : None Response Time : N.A Think Time : N.A Minimum Instruction Time : 0

Correct Marks : 5 Wrong Marks : 1

Question Key Details :

Key	Value
Comprehension	MCQ

If any party is not satisfied by the order of District Commission, then appeal against such order can be made to state commission within a period of _____ days from the date of order.

1. Forty five
2. Thirty
3. Sixty
4. Forty

Options :

485584145829. 1
485584145830. 2
485584145831. 3
485584145832. 4

Question Number : 73 Question Id : 48558436458 Question Type : MCQ Option Shuffling : No Is Question Mandatory : No Calculator : None Response Time : N.A Think Time : N.A Minimum Instruction Time : 0

Correct Marks : 5 Wrong Marks : 1

Question Key Details :

Key	Value
Comprehension	MCQ

اگر ایک فریق ڈسٹرکٹ کمپنی کے فیصلے سے مطمئن نہیں تو ایسے فیصلے کے خلاف اپیل اسٹیٹ کمیشن میں، فیصلے کی تاریخ دن کے اندر کی جانی چاہئے۔

1. پینتالیس دن
2. تیس دن
3. ساٹھ دن
4. چالیس دن

Options :

485584145829. 1
485584145830. 2
485584145831. 3
485584145832. 4

Question Number : 74 Question Id : 48558436459 Question Type : MCQ Option Shuffling : No Is Question Mandatory : No Calculator : None Response Time : N.A Think Time : N.A Minimum Instruction Time : 0

Correct Marks : 5 Wrong Marks : 1

Question Key Details :

Key	Value
Comprehension	MCQ

Functions of Entrepreneurship in relation to economic Development do not include :-

1. Contribution to GDP
2. Capital Formation
3. Generation of Employment
4. Generation of Business opportunities only for same business

Options :

485584145833. 1
485584145834. 2
485584145835. 3
485584145836. 4

Question Number : 74 Question Id : 48558436459 Question Type : MCQ Option Shuffling : No Is Question Mandatory : No Calculator : None Response Time : N.A Think Time : N.A Minimum Instruction Time : 0

Correct Marks : 5 Wrong Marks : 1

Question Key Details :

Key	Value
Comprehension	MCQ

معاشی ترقی سے متعلق انٹریپرینشپ کے فکشنز شامل نہیں۔

1. GDP میں تعاون کو
2. کیپٹل فارمیشن کو
3. روزگار پیدا کرنے کو
4. صرف اسی بزنس کی لئے بزنس کے مواقع پیدا کرنا

Options :

485584145833. 1
485584145834. 2
485584145835. 3
485584145836. 4

Question Number : 75 Question Id : 48558436460 Question Type : MCQ Option Shuffling : No Is Question Mandatory : No Calculator : None Response Time : N.A Think Time : N.A Minimum Instruction Time : 0

Correct Marks : 5 Wrong Marks : 1

Question Key Details :

Key	Value
Comprehension	MCQ

The person who combines all factors of production, who takes risk to earn profit is called entrepreneur.
Entrepreneur is _____.

1. Subject
2. Verb
3. Outcome
4. Process

Options :

485584145837. 1
485584145838. 2
485584145839. 3
485584145840. 4

Question Number : 75 Question Id : 48558436460 Question Type : MCQ Option Shuffling : No Is Question Mandatory : No Calculator : None Response Time : N.A Think Time : N.A Minimum Instruction Time : 0

Correct Marks : 5 Wrong Marks : 1

Question Key Details :

Key	Value
Comprehension	MCQ

جو شخص پروڈکشن کے سارے عناصر کو ملا کر فائدہ کمانے کے خاطر جو کہم اٹھاتا اسے Entrepreneur کہا جاتا ہے۔

_____ Entrepreneur ہے

1. فاعل
2. فعل
3. نتیجہ
4. پروسیس

Options :

485584145837. 1
485584145838. 2
485584145839. 3
485584145840. 4

Question Number : 76 Question Id : 48558436461 Question Type : MCQ Option Shuffling : No Is Question Mandatory : No Calculator : None Response Time : N.A Think Time : N.A Minimum Instruction Time : 0

Correct Marks : 5 Wrong Marks : 1

Question Key Details :

Key	Value
Comprehension	MCQ

Zicon Ltd. has recently set a target of becoming market leader in sale of smart TV. Arrange the steps in the process of planning which will follow after setting of targets :

- A. Identifying alternative courses of action
- B. Implementing the plan
- C. Evaluating alternative courses
- D. Selecting an alternative
- E. Developing premises

Choose the correct answer from the options given below :

- 1. E, A, C, D, B
- 2. E, C, D, B, A
- 3. B, C, E, A, D
- 4. E, A, B, D, C

Options :

- 485584145841. 1
- 485584145842. 2
- 485584145843. 3
- 485584145844. 4

Question Number : 76 Question Id : 48558436461 Question Type : MCQ Option Shuffling : No Is Question Mandatory : No Calculator : None Response Time : N.A Think Time : N.A Minimum Instruction Time : 0

Correct Marks : 5 Wrong Marks : 1

Question Key Details :

Key	Value
Comprehension	MCQ

Zicon Ltd حالیہ اسمارٹ ٹی وی کے بکری میں سب سے آگے ہونے کا ہدف بنایا ہے۔ منصوبہ بندی کے عمل میں، ہدف متعین کرنے کے بعد کے مراحل کو مرتب کریں۔

- A. متبادل طریقہ ہائے عمل کی شناخت
- B. منصوبے کا نفاذ
- C. متبادل طریقہ ہائے عمل جانچ
- D. متبادل کا انتخاب
- E. مفروضے قائم کرنا

مندرجہ ذیل میں سے صحیح جواب چنیں :

- 1. E, A, C, D, B
- 2. E, C, D, B, A
- 3. B, C, E, A, D
- 4. E, A, B, D, C

Options :

- 485584145841. 1
- 485584145842. 2

485584145843. 3

485584145844. 4

Question Number : 77 Question Id : 48558436462 Question Type : MCQ Option Shuffling : No Is Question Mandatory : No Calculator : None Response Time : N.A Think Time : N.A Minimum Instruction Time : 0

Correct Marks : 5 Wrong Marks : 1

Question Key Details :

Key	Value
Comprehension	MCQ

Arrange the correct sequence of steps in Organizing process.

- A. Identification and division of work
- B. Establishing authority and reporting relationships
- C. Assignment of Duties
- D. Departmentalization

Choose the correct answer from the options given below :

- 1. B, C, A, D
- 2. D, A, B, C
- 3. C, B, D, A
- 4. A, D, C, B

Options :

485584145845. 1

485584145846. 2

485584145847. 3

485584145848. 4

Question Number : 77 Question Id : 48558436462 Question Type : MCQ Option Shuffling : No Is Question Mandatory : No Calculator : None Response Time : N.A Think Time : N.A Minimum Instruction Time : 0

Correct Marks : 5 Wrong Marks : 1

Question Key Details :

Key	Value
Comprehension	MCQ

منظم کرنے کے عمل میں مراحل کو صحیح ترتیب میں مرتب کریں:

- A. تشخیص و تقسیم کا عمل
- B. اتھارٹی کا قیام اور رپورٹنگ تعلقات کا قیام
- C. فرائض کی سپردگی
- D. شعبوں میں تقسیم

مندرجہ ذیل اختیارات میں سے صحیح جواب چنیں :

1. B, C, A, D
2. D, A, B, C
3. C, B, D, A
4. A, D, C, B

Options :

- 485584145845. 1
- 485584145846. 2
- 485584145847. 3
- 485584145848. 4

Question Number : 78 Question Id : 48558436463 Question Type : MCQ Option Shuffling : No Is Question Mandatory : No Calculator : None Response Time : N.A Think Time : N.A Minimum Instruction Time : 0

Correct Marks : 5 Wrong Marks : 1

Question Key Details :

Key	Value
Comprehension	MCQ

Mr. Prateek, the Production Manager of Zim Ltd. has selected the right workforce for his department. He decides the following steps which he would adopt in the process of staffing. Arrange them in correct sequence

- A. Performance Appraisal
- B. Compensation
- C. Placement and Orientation
- D. Promotion and Career Planning
- E. Training and development

Choose the correct answer from the options given below :

1. C, A, E, D, B
2. B, C, D, A, E
3. D, A, B, E, C
4. C, E, A, D, B

Options :

- 485584145849. 1
- 485584145850. 2
- 485584145851. 3
- 485584145852. 4

Question Number : 78 Question Id : 48558436463 Question Type : MCQ Option Shuffling : No Is Question Mandatory :
No Calculator : None Response Time : N.A Think Time : N.A Minimum Instruction Time : 0
Correct Marks : 5 Wrong Marks : 1
Question Key Details :

Key	Value
Comprehension	MCQ

مسٹر پرنیک Zim Ltd کے پروڈکشن مینیجر نے اپنے شعبے کی لئے صحیح قوت عاملہ کا انتخاب کر لیا ہے۔ اسٹافنگ کے عمل میں مندرجہ ذیل اقدامات لینے کا انہوں نے فیصلہ کر لیا ہے۔ انکو صحیح ترتیب میں مرتب کریں۔

- A. کارکردگی کی بنیاد پر تنخواہ میں اضافہ
- B. معاوضہ
- C. پلیسمنٹ اور اورینٹیشن
- D. ترقی اور کریئر پلاننگ
- E. ٹریننگ اور ترقی

مندرجہ ذیل اختیارات میں سے صحیح جواب چنیں :

1. C, A, E, D, B
2. B, C, D, A, E
3. D, A, B, E, C
4. C, E, A, D, B

Options :

- 485584145849. 1
- 485584145850. 2
- 485584145851. 3
- 485584145852. 4

Question Number : 79 Question Id : 48558436464 Question Type : MCQ Option Shuffling : No Is Question Mandatory :
No Calculator : None Response Time : N.A Think Time : N.A Minimum Instruction Time : 0
Correct Marks : 5 Wrong Marks : 1
Question Key Details :

Key	Value
Comprehension	MCQ

Arrange the steps of trading procedure of stock exchange in the correct sequence

- A. Delivering the shares
- B. Placing an Order
- C. Opening a Demat Account
- D. Execution of the order
- E. Settlement of transaction

Choose the correct answer from the options given below :

- 1. C, A, B, D, E
- 2. C, B, D, A, E
- 3. B, A, D, C, E
- 4. B, C, A, E, D

Options :

- 485584145853. 1
- 485584145854. 2
- 485584145855. 3
- 485584145856. 4

Question Number : 79 Question Id : 48558436464 Question Type : MCQ Option Shuffling : No Is Question Mandatory : No Calculator : None Response Time : N.A Think Time : N.A Minimum Instruction Time : 0

Correct Marks : 5 Wrong Marks : 1

Question Key Details :

Key	Value
Comprehension	MCQ

اسٹاک ایکسچینج کے ٹریڈنگ پروسیجر کے مراحل کو صحیح ترتیب میں مرتب کریں:

- A. شیئرز ڈیلیور کرنا
- B. آرڈر دینا
- C. Demat Account کھولنا
- D. آرڈر کو نافذ کرنا
- E. ٹرانزیکشن کا سٹلمنٹ

مندرجہ ذیل اختیارات میں سے صحیح جواب چنیں :

- 1. C, A, B, D, E
- 2. C, B, D, A, E
- 3. B, A, D, A, E
- 4. B, C, A, E, D

Options :

- 485584145853. 1
- 485584145854. 2
- 485584145855. 3
- 485584145856. 4

Question Number : 80 Question Id : 48558436465 Question Type : MCQ Option Shuffling : No Is Question Mandatory : No Calculator : None Response Time : N.A Think Time : N.A Minimum Instruction Time : 0

Correct Marks : 5 Wrong Marks : 1

Question Key Details :

Key	Value
Comprehension	MCQ

Arrange the following in proper sequence.

- A. Critical Point control and management by exception
- B. Performance should be measured in an objective and reliable manner
- C. Standards are set in both Quantitative as well as Qualitative terms
- D. Reveal the deviation between actual and desired results
- E. Taking corrective action

Choose the correct answer from the options given below :

- 1. A, B, C, D, E
- 2. E, D, C, B, A
- 3. C, B, D, A, E
- 4. A, C, B, E, D

Options :

- 485584145857. 1
- 485584145858. 2
- 485584145859. 3
- 485584145860. 4

Question Number : 80 Question Id : 48558436465 Question Type : MCQ Option Shuffling : No Is Question Mandatory : No Calculator : None Response Time : N.A Think Time : N.A Minimum Instruction Time : 0

Correct Marks : 5 Wrong Marks : 1

Question Key Details :

Key	Value
Comprehension	MCQ

مندرجہ ذیل کو صحیح ترتیب میں مرتب کریں :

- A. نازک حصے کا کنٹرول اور استثنا کے ذریعہ مینجمنٹ
B. کارکردگی معروضی اور قابل اعتماد طریقے سے ماپنا چاہئے
C. معیار کا تعین کیف و کم دونوں طرح کا ہوتا ہے۔
D. واقعی اور متوقع نتیجے میں فرق کو واضح کرنا
E. درستگی کی اقدامات کرنا

مندرجہ ذیل اختیارات میں سے صحیح جواب چلیں :

1. A, B, C, D, E
2. E, D, C, B, A
3. C, B, D, A, E
4. A, C, B, E, D

Options :

485584145857. 1
485584145858. 2
485584145859. 3
485584145860. 4

Question Number : 81 Question Id : 48558436466 Question Type : MCQ Option Shuffling : No Is Question Mandatory : No Calculator : None Response Time : N.A Think Time : N.A Minimum Instruction Time : 0

Correct Marks : 5 Wrong Marks : 1

Question Key Details :

Key	Value
Comprehension	MCQ

Identify the correct combinations of Principles of Management.

- A. Division of work and motion study
- B. Equity and scalar chain
- C. Authority and Responsibility and Method Study
- D. Discipline and Order
- E. Initiative and Fatigue Study

Choose the correct answer from the options given below :

1. B and D Only
2. A and D Only
3. B and E Only
4. C and E Only

Options :

485584145861. 1
485584145862. 2
485584145863. 3
485584145864. 4

Question Number : 81 Question Id : 48558436466 Question Type : MCQ Option Shuffling : No Is Question Mandatory :
No Calculator : None Response Time : N.A Think Time : N.A Minimum Instruction Time : 0
Correct Marks : 5 Wrong Marks : 1
Question Key Details :

Key	Value
Comprehension	MCQ

اصول مینجمنٹ کے صحیح جوڑے کی شناخت کریں :

- A. تقسیم عمل اور موشن اسٹڈی
B. مساوات اور سکیلر چین
C. اتھارٹی، ذمہ داری اور مینٹن اسٹڈی
D. ڈسپلین اور آرڈر
E. انیشیٹیو اور ٹھکانے کا مطالعہ

مندرجہ ذیل اختیارات میں سے صحیح جواب چنیں :

1. D اور B صرف
2. D اور A صرف
3. E اور B صرف
4. E اور C صرف

Options :

485584145861. 1
485584145862. 2
485584145863. 3
485584145864. 4

Question Number : 82 Question Id : 48558436467 Question Type : MCQ Option Shuffling : No Is Question Mandatory :
No Calculator : None Response Time : N.A Think Time : N.A Minimum Instruction Time : 0
Correct Marks : 5 Wrong Marks : 1
Question Key Details :

Key	Value
Comprehension	MCQ

Which of the following are the sources of Recruitment for a newly set organization?

- A. Unskilled workers required for unskilled work provided by labour contractor
- B. Promotion to the higher post
- C. Websites such as www.naukri.com & jobstostreet etc.
- D. Recommendations of employees
- E. Recruitment from educational institutions

Choose the correct answer from the options given below :

- 1. B Only
- 2. A, C and D Only
- 3. A, C & E Only
- 4. E Only

Options :

- 485584145865. 1
- 485584145866. 2
- 485584145867. 3
- 485584145868. 4

Question Number : 82 Question Id : 48558436467 Question Type : MCQ Option Shuffling : No Is Question Mandatory : No Calculator : None Response Time : N.A Think Time : N.A Minimum Instruction Time : 0

Correct Marks : 5 Wrong Marks : 1

Question Key Details :

Key	Value
Comprehension	MCQ

نئی قائم کی ہوئی تنظیم میں مندرجہ ذیل میں سے کون سے بحالی کے ذرائع ہیں۔

- A. بے ہنر کام کرنے والوں کی بے ہنر کام کیلئے ضرورت ہے جس لیبر کانٹریکٹر مہیا کرتا ہے
- B. اونچے عہدوں پر پرموشن
- C. ویب سائٹ جیسے www.naukri.com اور jobstostreet وغیرہ
- D. ملازمین کے ذریعہ تجویز کردہ لوگ
- E. تعلیمی اداروں سے بحالی

مندرجہ ذیل اختیارات میں سے صحیح جواب چنیں :

- 1. B صرف
- 2. D اور A, C صرف
- 3. E اور A, C, D صرف
- 4. E صرف

Options :

- 485584145865. 1
- 485584145866. 2
- 485584145867. 3
- 485584145868. 4

Question Number : 83 Question Id : 48558436468 Question Type : MCQ Option Shuffling : No Is Question Mandatory : No Calculator : None Response Time : N.A Think Time : N.A Minimum Instruction Time : 0
Correct Marks : 5 Wrong Marks : 1
Question Key Details :

Key	Value
Comprehension	MCQ

Which of the following statement/statements are not related with elements of Directing.

- A. Every manager in the organization supervise his/her subordinates
- B. It stimulates people to take up work voluntarily
- C. The process of influencing the behavior of people by making them strive voluntarily towards achievements of organizational goals
- D. Effective communication with subordinates
- E. Coordinating different functions of management

Choose the correct answer from the options given below :

- 1. E Only
- 2. A, B and D Only
- 3. D Only
- 4. B and C Only

Options :

- 485584145869. 1
- 485584145870. 2
- 485584145871. 3
- 485584145872. 4

Question Number : 83 Question Id : 48558436468 Question Type : MCQ Option Shuffling : No Is Question Mandatory : No Calculator : None Response Time : N.A Think Time : N.A Minimum Instruction Time : 0
Correct Marks : 5 Wrong Marks : 1
Question Key Details :

Key	Value
Comprehension	MCQ

مندرجہ ذیل میں سے کون سے بیانات ڈائریکٹنگ کے عناصر سے متعلق نہیں :

- A. تنظیم میں ہر مینجیر اپنے ماتحتوں کو سپروائز کرتا ہے۔
B. یہ لوگوں کو ازراہ خود کام لینے پر ابھارتا ہے۔
C. لوگوں کے رویوں کو متاثر کرنے کا عمل تاکہ لوگ خود بخود تنظیم کے مقاصد کے حصول کے لئے کوشاں ہوں
D. ماتحتوں کے ساتھ موثر مواصلات
E. مینجمنٹ کے مختلف فنکشنز کو ہم آہنگ کرنا

مندرجہ ذیل اختیارات میں سے صحیح جواب چنیں :

1. صرف E
2. صرف A, B اور D
3. صرف D
4. صرف B اور C

Options :

485584145869. 1
485584145870. 2
485584145871. 3
485584145872. 4

Question Number : 84 Question Id : 48558436469 Question Type : MCQ Option Shuffling : No Is Question Mandatory : No Calculator : None Response Time : N.A Think Time : N.A Minimum Instruction Time : 0

Correct Marks : 5 Wrong Marks : 1

Question Key Details :

Key	Value
Comprehension	MCQ

Which of the following is not related with "Critical point of control" concept?

- A. Control should focus on key result areas
- B. KRA's can never be set as critical points
- C. It is very easy and economical to keep a check on each and every activity of organization
- D. If anything goes wrong at the critical points the entire organization suffers
- E. In manufacturing organization, an increase of 5% in labour cost may be more troublesome than a 15% increase in postal charges

Choose the correct answer from the options given below :

1. A Only
2. C & B Only
3. C Only
4. D & E Only

Options :

485584145873. 1
485584145874. 2
485584145875. 3

Question Number : 84 Question Id : 48558436469 Question Type : MCQ Option Shuffling : No Is Question Mandatory : No Calculator : None Response Time : N.A Think Time : N.A Minimum Instruction Time : 0

Correct Marks : 5 Wrong Marks : 1

Question Key Details :

Key	Value
Comprehension	MCQ

مندرجہ ذیل میں سے کون "نازک نقطہ کنٹرول" سے متعلق نہیں ہے۔

- A. کنٹرول کا اہم رزلٹ کے حصوں پر توجہ مرکوز رکھنا
 B. KRA کو کبھی بھی نازک نقطہ نہیں مانا جا سکتا
 C. تنظیم کی ہر ایک فرد ہر ایک سرگرمی پر نظر رکھنا آسان اور سہل العمل ہے۔
 D. نازک نقطوں کا تجزیہ اگر غلط ہو جائے تو پوری تنظیم متاثر ہوتی ہے۔
 E. ایک مینوفیکچرنگ تنظیم میں مزدوری پر 5 فیصد خرچ کا اضافہ پوسٹل چارج میں 15 فیصد خرچے سے زیادہ مہنگا پڑ سکتا ہے۔

مندرجہ ذیل اختیارات میں سے صحیح جواب چنیں :

1. A صرف
2. B اور C صرف
3. C صرف
4. E اور D صرف

Options :

485584145873. 1
 485584145874. 2
 485584145875. 3
 485584145876. 4

Question Number : 85 Question Id : 48558436470 Question Type : MCQ Option Shuffling : No Is Question Mandatory : No Calculator : None Response Time : N.A Think Time : N.A Minimum Instruction Time : 0

Correct Marks : 5 Wrong Marks : 1

Question Key Details :

Key	Value
Comprehension	MCQ

What are the aspects of feasibility analysis under Entrepreneurship Development ?

- A. Technical Aspect
- B. Economic Aspect
- C. Financial Aspect
- D. Commercial Aspect
- E. Political Aspect

Choose the correct answer from the options given below :

1. A, B and C Only
2. A, B, D and E Only
3. A and B Only
4. A, B, C and D Only

Options :

- 485584145877. 1
- 485584145878. 2
- 485584145879. 3
- 485584145880. 4

Question Number : 85 Question Id : 48558436470 Question Type : MCQ Option Shuffling : No Is Question Mandatory : No Calculator : None Response Time : N.A Think Time : N.A Minimum Instruction Time : 0

Correct Marks : 5 Wrong Marks : 1

Question Key Details :

Key	Value
Comprehension	MCQ

انٹریپرائز شپ ڈیولپمنٹ کے تحت امکانی تجزیہ کے پہلو کون ہیں ؟

- A. تکنیکی پہلو
- B. معاشی پہلو
- C. فائنانشل پہلو
- D. تجارتی پہلو
- E. سیاسی پہلو

مندرجہ ذیل اختیارات میں سے صحیح جواب چنیں :

1. صرف A, B اور C
2. صرف A, B, D اور E
3. صرف A اور B
4. صرف A, B, C اور D

Options :

- 485584145877. 1
- 485584145878. 2
- 485584145879. 3
- 485584145880. 4

Question Number : 86 Question Id : 48558436471 Question Type : MCQ Option Shuffling : No Is Question Mandatory : No Calculator : None Response Time : N.A Think Time : N.A Minimum Instruction Time : 0

Correct Marks : 5 Wrong Marks : 1

Question Key Details :

Key	Value
Comprehension	MCQ

Match List I with List II

LIST I		LIST II	
A.	Economic environment	I.	Legislations Passed
B.	Social environment	II.	Stock market Indices
C.	Technological environment	III.	New Methods and Techniques
D.	Legal environment	IV.	Traditions

Choose the correct answer from the options given below:

1. A-IV, B-III, C-II, D-I
2. A-II, B-IV, C-III, D-I
3. A-II, B-III, C-IV, D-I
4. A-II, B-I, C-III, D-IV

Options :

- 485584145881. 1
- 485584145882. 2
- 485584145883. 3
- 485584145884. 4

Question Number : 86 Question Id : 48558436471 Question Type : MCQ Option Shuffling : No Is Question Mandatory : No Calculator : None Response Time : N.A Think Time : N.A Minimum Instruction Time : 0

Correct Marks : 5 Wrong Marks : 1

Question Key Details :

Key	Value
Comprehension	MCQ

فہرست I کو فہرست II سے ملائیں

فہرست II	فہرست I
I. قوانین پاس کئے گئے	A. معاشی ماحول
II. اسٹاک مارکیٹ انڈیکسز	B. سماجی ماحول
III. نئے میٹھیڈس اور تکنیکس	C. تکنیکی ماحول
IV. روایتیں	D. قانونی ماحول

مندرجہ ذیل اختیارات میں سے صحیح جواب چنیں :

1. A-IV, B-III, C-II, D-I
2. A-II, B-IV, C-III, D-I
3. A-II, B-III, C-IV, D-I
4. A-II, B-I, C-III, D-IV

Options :

485584145881. 1
485584145882. 2
485584145883. 3
485584145884. 4

Question Number : 87 Question Id : 48558436472 Question Type : MCQ Option Shuffling : No Is Question Mandatory : No Calculator : None Response Time : N.A Think Time : N.A Minimum Instruction Time : 0

Correct Marks : 5 Wrong Marks : 1

Question Key Details :

Key	Value
Comprehension	MCQ

Match List I with List II

LIST I		LIST II	
A.	Objectives	I.	General Statements
B.	Strategy	II.	Routine steps
C.	Policy	III.	Comprehensive plan
D.	Procedure	IV.	End point of planning

Choose the correct answer from the options given below:

1. A-IV, B-III, C-II, D-I
2. A-IV, B-II, C-III, D-I
3. A-IV, B-I, C-III, D-II
4. A-IV, B-III, C-I, D-II

Options :

- 485584145885. 1
- 485584145886. 2
- 485584145887. 3
- 485584145888. 4

Question Number : 87 Question Id : 48558436472 Question Type : MCQ Option Shuffling : No Is Question Mandatory : No Calculator : None Response Time : N.A Think Time : N.A Minimum Instruction Time : 0

Correct Marks : 5 Wrong Marks : 1

Question Key Details :

Key	Value
Comprehension	MCQ

فہرست I کو فہرست II سے ملائیں

فہرست II	فہرست I
I. عام بیانات	A. مقاصد
II. روٹین مراحل	B. اسٹریٹجی
III. جامع منصوبہ	C. پالیسی
IV. منصوبہ بندی کا آخری نقطہ	D. پروجیز

مندرجہ ذیل اختیارات میں سے صحیح جواب چنیں :

1. A-IV, B-III, C-II, D-I
2. A-IV, B-II, C-III, D-I
3. A-IV, B-I, C-III, D-II
4. A-IV, B-III, C-I, D-II

Options :

485584145885. 1
485584145886. 2
485584145887. 3
485584145888. 4

Question Number : 88 Question Id : 48558436473 Question Type : MCQ Option Shuffling : No Is Question Mandatory : No Calculator : None Response Time : N.A Think Time : N.A Minimum Instruction Time : 0

Correct Marks : 5 Wrong Marks : 1

Question Key Details :

Key	Value
Comprehension	MCQ

Match List I with List II

LIST I (Controlling Process)		LIST II (Related Concept)	
A.	Analysing deviations	I.	It demands managerial attention
B.	Taking corrective action	II.	It becomes easy when quantitative terms are used
C.	Comparison of standard with actuals	III.	To determine acceptable range of deviations
D.	Setting performance standards	IV.	Serves as benchmarks towards which an organization strives to work

Choose the correct answer from the options given below:

1. A-I, B-III, C-II, D-IV
2. A-III, B-I, C-II, D-IV
3. A-III, B-II, C-I, D-IV
4. A-IV, B-III, C-II, D-I

Options :

- 485584145889. 1
- 485584145890. 2
- 485584145891. 3
- 485584145892. 4

Question Number : 88 Question Id : 48558436473 Question Type : MCQ Option Shuffling : No Is Question Mandatory : No Calculator : None Response Time : N.A Think Time : N.A Minimum Instruction Time : 0

Correct Marks : 5 Wrong Marks : 1

Question Key Details :

Key	Value
Comprehension	MCQ

فہرست II (متعلقہ طریقہ کار)	فہرست I (کنٹرولنگ پروسیس)
I. یہ مینجریل توجہ کا طالب ہے	A. کچ روئی کا تجزیہ کرنا
II. جب عددی حساب کیا جائے تو یہ آسانی ہو جاتی ہے	B. درستگی کے لئے عملی اقدام
III. قابل قبول کمی کو متعین کرنا	C. معیار اور واقعی کا موازنہ
IV. اس معیار کے طور پر کام کرتا ہے جس کے حصول کے لئے تنظیم کو تیار ہے۔	D. کارکردگی کا معیار طے کرنا

مندرجہ ذیل اختیارات میں سے صحیح جواب چنیں :

1. A-I, B-III, C-II, D-IV
2. A-III, B-I, C-II, D-IV
3. A-III, B-II, C-I, D-IV
4. A-IV, B-III, C-II, D-I

Options :

485584145889. 1
485584145890. 2
485584145891. 3
485584145892. 4

Question Number : 89 Question Id : 48558436474 Question Type : MCQ Option Shuffling : No Is Question Mandatory : No Calculator : None Response Time : N.A Think Time : N.A Minimum Instruction Time : 0

Correct Marks : 5 Wrong Marks : 1

Question Key Details :

Key	Value
Comprehension	MCQ

Match List I with List II

LIST I		LIST II	
A.	Interest Coverage Ratio	I.	Rate of return
B.	Choice of Technique	II.	Fixed Capital
C.	Credit Allowed	III.	Capital structure
D.	Capital budgeting decisions	IV.	Working Capital

Choose the correct answer from the options given below:

1. A-II, B-III, C-IV, D-I
2. A-III, B-II, C-I, D-IV
3. A-III, B-II, C-IV, D-I
4. A-II, B-IV, C-III, D-I

Options :

- 485584145893. 1
- 485584145894. 2
- 485584145895. 3
- 485584145896. 4

Question Number : 89 Question Id : 48558436474 Question Type : MCQ Option Shuffling : No Is Question Mandatory : No Calculator : None Response Time : N.A Think Time : N.A Minimum Instruction Time : 0

Correct Marks : 5 Wrong Marks : 1

Question Key Details :

Key	Value
Comprehension	MCQ

فہرست I کو فہرست II سے ملائیں

فہرست II	فہرست I
I. منافع کی شرح	A. سود کی بھریائی کا تناسب
II. فکسڈ کیپٹل	B. تکنیک کا اختیار
III. کیپٹل اسٹرکچر	C. اجازت شدہ کریڈٹ
IV. ورکنگ کیپٹل	D. کیپٹل پر بجٹ کا فیصلہ

مندرجہ ذیل اختیارات میں سے صحیح جواب چنیں :

1. A-II, B-III, C-IV, D-I
2. A-III, B-II, C-I, D-IV
3. A-III, B-II, C-IV, D-I
4. A-II, B-IV, C-III, D-I

Options :

485584145893. 1
485584145894. 2
485584145895. 3
485584145896. 4

Question Number : 90 Question Id : 48558436475 Question Type : MCQ Option Shuffling : No Is Question Mandatory : No Calculator : None Response Time : N.A Think Time : N.A Minimum Instruction Time : 0

Correct Marks : 5 Wrong Marks : 1

Question Key Details :

Key	Value
Comprehension	MCQ

Match List I with List II

LIST I		LIST II	
A.	Shopping Products	I.	Cigarettes, Ice cream, Medicines
B.	Speciality Products	II.	Raw materials, Engines, Lubricants
C.	Industrial Products	III.	Radio, Jewellery, Furniture
D.	Convenience Products	IV.	Salon, Restaurant, Boutique

Choose the correct answer from the options given below:

1. A-I, B-II, C-IV, D-III
2. A-III, B-I, C-II, D-IV
3. A-III, B-IV, C-II, D-I
4. A-IV, B-III, C-II, D-I

Options :

- 485584145897. 1
- 485584145898. 2
- 485584145899. 3
- 485584145900. 4

Question Number : 90 Question Id : 48558436475 Question Type : MCQ Option Shuffling : No Is Question Mandatory : No Calculator : None Response Time : N.A Think Time : N.A Minimum Instruction Time : 0

Correct Marks : 5 Wrong Marks : 1

Question Key Details :

Key	Value
Comprehension	MCQ

فہرست II	فہرست I
I. سگریٹ، آئس کریم، دوائیں	A. سائینگ پروڈکٹس
II. کچا مادہ، انجن، لیبریکنٹ	B. خاص پروڈکٹس
III. ریڈیو، زیورات، فرنیچر	C. صنعتی پروڈکٹس
IV. سیلون، ریسٹورینٹ، کیڑے کے دوکان	D. سہولت کے پروڈکٹس

مندرجہ ذیل اختیارات میں سے صحیح جواب چنیں :

1. A-I, B-II, C-IV, D-III

2. A-III, B-I, C-II, D-IV

3. A-III, B-IV, C-II, D-I

4. A-IV, B-III, C-II, D-I

Options :

485584145897. 1

485584145898. 2

485584145899. 3

485584145900. 4

Sub-Section Number :

2

Sub-Section Id :

4855842694

Question Shuffling Allowed :

No

Is Section Default? :

null

Question Number : 91 Question Id : 48558436476 Question Type : MCQ Option Shuffling : No Is Question Mandatory :

No Calculator : None Response Time : N.A Think Time : N.A Minimum Instruction Time : 0

Correct Marks : 5 Wrong Marks : 1

Question Key Details :

Key	Value
Comprehension	Comp1

Mr. Rehan has done a diploma in Financial market and its participants. Recently he got a chance to present his knowledge and train students in a school. He told students about various money market instruments. He mentioned about an instrument which is issued by R.B.I on behalf of Central Government. He told students that Banks use a system to borrow money (an instrument) to manage their CRR i.e Cash Reserve Ratio. Later, he mentioned a short term self liquidating instrument like Bills of Exchange that can be used for arranging working capital. He also told students about an instrument that helps to mobilise large amounts of money in short period by commercial banks. Lastly, Mr. Rehan spoke about an instrument that works as a replacement towards bank borrowing for large credit-worthy companies, its maturity period is 15 days to one year.

"He mentioned about an Instrument which is issued by RBI on behalf of Central Government" .

Identify the Money instrument to which the above given line is related to.

1. Call money
2. Commercial Papers
3. Treasury Bills
4. Commercial Bills

Options :

485584145901. 1
485584145902. 2
485584145903. 3
485584145904. 4

Question Number : 91 Question Id : 48558436476 Question Type : MCQ Option Shuffling : No Is Question Mandatory : No Calculator : None Response Time : N.A Think Time : N.A Minimum Instruction Time : 0

Correct Marks : 5 Wrong Marks : 1

Question Key Details :

Key	Value
Comprehension	Compl

مسٹر ریحان نے "فائنانشل مارکیٹ اور شرکا" میں ڈپلومہ کر رکھا ہے۔ حالیہ دنوں میں انہیں ایک اسکول میں اپنے علم کو پیش کرنے اور طلباء کو ٹریننگ دینے کا موقع ملا۔ انہوں نے طلباء کو مختلف مارکیٹ انسٹرومنٹس کے بارے میں بتایا۔ انہوں نے ایک ایسے انسٹرومنٹ کے بارے میں بتایا جسے RBI حکومت کے نام پر ایسٹو کرتی ہے۔ انہوں نے طلباء کو بتایا کہ بینک CRR یعنی کیش ریزرو رشیو کو برقرار رکھنے کے لئے پیسہ قرض لینے کے ایک نظام کا استعمال کرتا ہے۔ بعد میں انہوں نے ذکر کیا کہ ایک قلیل مدتی لکویٹی انسٹرومنٹ جیسے بلس آف ایکسچ جسے ورکنگ کیپیٹل کے انتظام کرنے کے لئے استعمال کیا جاتا ہے۔ انہوں نے طلباء کو ایک ایسے انسٹرومنٹ کے بارے میں بتایا جو کم وقت میں بڑی رقم بینک کو اکٹھا کرنے میں مدد کرتی ہے۔ اخیر میں مسٹر ریحان نے ایک ایسے انسٹرومنٹ کے بارے میں بتایا جو قرض دینے جانے کے لائق بڑی کمپنیوں کے لئے بینکی قرض کے بدل کے طور پر کام کرتی ہے جس کی پختگی مدت 15 سے ایک سال تک ہے۔

انہوں نے ایک ایسے انسٹرومنٹ کے بارے میں بتایا جسے RBI حکومت کے نام پر ایشو کرتی ہے۔

اس انسٹرومنٹ کی نشاندہی کریں جو مذکورہ بالا عبارت میں مذکور ہے؟

1. کال منی
2. کمرشل پیپرز
3. ٹریزری بلس
4. کمرشیل بلس

Options :

485584145901. 1
485584145902. 2
485584145903. 3
485584145904. 4

Question Number : 92 Question Id : 48558436477 Question Type : MCQ Option Shuffling : No Is Question Mandatory : No Calculator : None Response Time : N.A Think Time : N.A Minimum Instruction Time : 0

Correct Marks : 5 Wrong Marks : 1

Question Key Details :

Key	Value
Comprehension	Comp1

Mr. Rehan has done a diploma in Financial market and its participants. Recently he got a chance to present his knowledge and train students in a school. He told students about various money market instruments. He mentioned about an instrument which is issued by R.B.I on behalf of Central Government. He told students that Banks use a system to borrow money (an instrument) to manage their CRR i.e Cash Reserve Ratio. Later, he mentioned a short term self liquidating instrument like Bills of Exchange that can be used for arranging working capital. He also told students about an instrument that helps to mobilise large amounts of money in short period by commercial banks. Lastly, Mr. Rehan spoke about an instrument that works as a replacement towards bank borrowing for large credit-worthy companies, its maturity period is 15 days to one year.

He told that Banks use a system to borrow money (an instrument) to manage their cash Reserve Ratio.

Which security amongst money market Instrument is mentioned here.

1. Call money
2. Commercial papers
3. Treasury bills
4. Commercial Bills

Options :

485584145905. 1
485584145906. 2
485584145907. 3
485584145908. 4

Question Number : 92 Question Id : 48558436477 Question Type : MCQ Option Shuffling : No Is Question Mandatory : No Calculator : None Response Time : N.A Think Time : N.A Minimum Instruction Time : 0

Correct Marks : 5 Wrong Marks : 1

Question Key Details :

Key	Value
Comprehension	Comp1

مسٹر ریحان نے ’’فائنانشل مارکیٹ اور شرکا‘‘ میں ڈپلومہ کر رکھا ہے۔ حالیہ دنوں میں انہیں ایک اسکول میں اپنے علم کو پیش کرنے اور طلباء کو ٹریننگ دینے کا موقع ملا۔ انہوں نے طلباء کو مختلف مارکیٹ انسٹرومنٹس کے بارے میں بتایا۔ انہوں نے ایک ایسے انسٹرومنٹ کے بارے میں بتایا جسے RBI حکومت کے نام پر ایشو کرتی ہے۔ انہوں نے طلباء کو بتایا کہ بینک CRR یعنی کیش ریزرو ریشو کو برقرار رکھنے کے لئے پیسہ قرض لینے کے ایک نظام کا استعمال کرتا ہے۔ بعد میں انہوں نے ذکر کیا کہ ایک قلیل مدتی لکویڈٹی انسٹرومنٹ جیسے بلس آف ایکسچج جسے ورکنگ کیپٹل کے انتظام کرنے کے لئے استعمال کیا جاتا ہے۔ انہوں نے طلباء کو ایک ایسے انسٹرومنٹ کے بارے میں بتایا جو کم وقت میں بڑی رقم بینک کو اکٹھا کرنے میں مدد کرتی ہے۔ اخیر میں مسٹر ریحان نے ایک ایسے انسٹرومنٹ کے بارے میں بتایا جو قرض دینے جانے کے لائق بڑی کمپنیوں کے لئے بینکی قرض کے بدل کے طور پر کام کرتی ہے جس کی پختگی مدت 15 سے ایک سال تک ہے۔

اس نے بتایا کہ بینک کا استعمال کیش ریزرو ریشو کو برقرار رکھنے کے لئے کرتے ہیں۔

منی مارکیٹ انسٹرومنٹ سے کون سی سیکوریٹی یہاں مذکور ہے ؟

1. کال منی
2. کمرشل پیپرز
3. ٹریزری بلس
4. کمرشل بلس

Options :

485584145905. 1
485584145906. 2
485584145907. 3
485584145908. 4

Question Number : 93 Question Id : 48558436478 Question Type : MCQ Option Shuffling : No Is Question Mandatory : No Calculator : None Response Time : N.A Think Time : N.A Minimum Instruction Time : 0

Correct Marks : 5 Wrong Marks : 1

Question Key Details :

Key	Value
Comprehension	Comp1

Mr. Rehan has done a diploma in Financial market and its participants. Recently he got a chance to present his knowledge and train students in a school. He told students about various money market instruments. He mentioned about an instrument which is issued by R.B.I on behalf of Central Government. He told students that Banks use a system to borrow money (an instrument) to manage their CRR i.e Cash Reserve Ratio. Later, he mentioned a short term self liquidating instrument like Bills of Exchange that can be used for arranging working capital. He also told students about an instrument that helps to mobilise large amounts of money in short period by commercial banks. Lastly, Mr. Rehan spoke about an instrument that works as a replacement towards bank borrowing for large credit-worthy companies, its maturity period is 15 days to one year.

"A short term self liquidating like Bills of Exchange than can be used for arranging working capital".

Which Money Market instrument, was Mr. Rehan referring to?

1. Call money
2. Certificate of Deposit
3. Commercial bills
4. Commercial papers

Options :

485584145909. 1
485584145910. 2
485584145911. 3
485584145912. 4

Question Number : 93 Question Id : 48558436478 Question Type : MCQ Option Shuffling : No Is Question Mandatory : No Calculator : None Response Time : N.A Think Time : N.A Minimum Instruction Time : 0

Correct Marks : 5 Wrong Marks : 1

Question Key Details :

Key	Value
Comprehension	Comp1

مسٹر ریحان نے "فائنانشل مارکیٹ اور سٹاک" میں ڈپلومہ کر رکھا ہے۔ حالیہ دنوں میں انہیں ایک اسکول میں اپنے علم کو پیش کرنے اور طلباء کو ٹریننگ دینے کا موقع ملا۔ انہوں نے طلباء کو مختلف مارکیٹ انسٹرومنٹس کے بارے میں بتایا۔ انہوں نے ایک ایسے انسٹرومنٹ کے بارے میں بتایا جسے RBI حکومت کے نام پر ایسٹو کرتی ہے۔ انہوں نے طلباء کو بتایا کہ بینک CRR یعنی کیش ریزرو رشیو کو برقرار رکھنے کے لئے پیسہ قرض لینے کے ایک نظام کا استعمال کرتا ہے۔ بعد میں انہوں نے ذکر کیا کہ ایک قلیل مدتی لکویڈیٹی انسٹرومنٹ جیسے بلس آف ایکسچج جسے ورکنگ کیپیٹل کے انتظام کرنے کے لئے استعمال کیا جاتا ہے۔ انہوں نے طلباء کو ایک ایسے انسٹرومنٹ کے بارے میں بتایا جو کم وقت میں بڑی رقم بینک کو اکٹھا کرنے میں مدد کرتی ہے۔ اخیر میں مسٹر ریحان نے ایک ایسے انسٹرومنٹ کے بارے میں بتایا جو قرض دینے والے کے لائق بڑی کمپنیوں کے لئے بینکی قرض کے بدلے کے طور پر کام کرتی ہے جس کی پختگی مدت 15 سے ایک سال تک ہے۔

" ایک قلیل مدتی لکویڈیٹی انسٹرومنٹ جیسے بلس آف ایکسچج جسے ورکنگ کیپیٹل کے انتظام کرنے کے لئے استعمال کیا جاتا ہے "

مسٹر ریحان کس منی مارکیٹ انسٹرومنٹ کی بات کر رہے تھے ؟

1. کال منی
2. سرٹیفیکٹ آف ڈپازٹ
3. کمرشل بلس
4. کمرشل پیپرز

Options :

485584145909. 1
485584145910. 2
485584145911. 3
485584145912. 4

Question Number : 94 Question Id : 48558436479 Question Type : MCQ Option Shuffling : No Is Question Mandatory : No Calculator : None Response Time : N.A Think Time : N.A Minimum Instruction Time : 0

Correct Marks : 5 Wrong Marks : 1

Question Key Details :

Key	Value
Comprehension	Compl

Mr. Rehan has done a diploma in Financial market and its participants. Recently he got a chance to present his knowledge and train students in a school. He told students about various money market instruments. He mentioned about an instrument which is issued by R.B.I on behalf of Central Government. He told students that Banks use a system to borrow money (an instrument) to manage their CRR i.e Cash Reserve Ratio. Later, he mentioned a short term self liquidating instrument like Bills of Exchange that can be used for arranging working capital. He also told students about an instrument that helps to mobilise large amounts of money in short period by commercial banks. Lastly, Mr. Rehan spoke about an instrument that works as a replacement towards bank borrowing for large credit-worthy companies, its maturity period is 15 days to one year.

"An instrument that helps to mobilise large amounts of money in short period by commercial banks".

Identify the money market instrument stated above :

1. Certificate of Deposit
2. Call money
3. Commercial bills
4. Treasury bills

Options :

485584145913. 1
485584145914. 2
485584145915. 3
485584145916. 4

Question Number : 94 Question Id : 48558436479 Question Type : MCQ Option Shuffling : No Is Question Mandatory : No Calculator : None Response Time : N.A Think Time : N.A Minimum Instruction Time : 0

Correct Marks : 5 Wrong Marks : 1

Question Key Details :

Key	Value
Comprehension	Compl

مسٹر ریحان نے "فائنانشل مارکیٹ اور شرکا" میں ڈپلومہ کر رکھا ہے۔ حالیہ دنوں میں انہیں ایک اسکول میں اپنے علم کو پیش کرنے اور طلباء کو ٹریننگ دینے کا موقع ملا۔ انہوں نے طلباء کو مختلف مارکیٹ انسٹرومنٹس کے بارے میں بتایا۔ انہوں نے ایک ایسے انسٹرومنٹ کے بارے میں بتایا جسے RBI حکومت کے نام پر ایشو کرتی ہے۔ انہوں نے طلباء کو بتایا کہ بینک CRR یعنی کیش ریزرو رشیو کو برقرار رکھنے کے لئے پیسہ قرض لینے کے ایک نظام کا استعمال کرتا ہے۔ بعد میں انہوں نے ذکر کیا کہ ایک قلیل مدتی لکوئیڈٹی انسٹرومنٹ جیسے بلس آف ایکسچج جسے ورکنگ کیپیٹل کے انتظام کرنے کے لئے استعمال کیا جاتا ہے۔ انہوں نے طلباء کو ایک ایسے انسٹرومنٹ کے بارے میں بتایا جو کم وقت میں بڑی رقم بینک کو اکٹھا کرنے میں مدد کرتی ہے۔ اخیر میں مسٹر ریحان نے ایک ایسے انسٹرومنٹ کے بارے میں بتایا جو قرض دینے جانے کے لائق بڑی کمپنیوں کے لئے بینکی قرض کے بدل کے طور پر کام کرتی ہے جس کی پختگی مدت 15 سے ایک سال تک ہے۔

ایک انسٹرومنٹ جو تجارتی بینکوں کو بڑی رقم اکٹھا کرنے میں مدد کرتی ہے وہ ہے۔

مندرجہ ذیل میں دیے گئے منی مارکیٹ انسٹرومنٹ کی پہچان کیجئے ؟

1. سرٹیفیکٹ آف ڈپازٹ
2. کال منی
3. کمرشل بلس
4. ٹریزری بلس

Options :

485584145913. 1
485584145914. 2
485584145915. 3
485584145916. 4

Question Number : 95 Question Id : 48558436480 Question Type : MCQ Option Shuffling : No Is Question Mandatory : No Calculator : None Response Time : N.A Think Time : N.A Minimum Instruction Time : 0

Correct Marks : 5 Wrong Marks : 1

Question Key Details :

Key	Value
Comprehension	Comp1

Mr. Rehan has done a diploma in Financial market and its participants. Recently he got a chance to present his knowledge and train students in a school. He told students about various money market instruments. He mentioned about an instrument which is issued by R.B.I on behalf of Central Government. He told students that Banks use a system to borrow money (an instrument) to manage their CRR i.e Cash Reserve Ratio. Later, he mentioned a short term self liquidating instrument like Bills of Exchange that can be used for arranging working capital. He also told students about an instrument that helps to mobilise large amounts of money in short period by commercial banks. Lastly, Mr. Rehan spoke about an instrument that works as a replacement towards bank borrowing for large credit-worthy companies, its maturity period is 15 days to one year.

"An instrument that works as a replacement towards bank borrowing for large Credit-worthy companies, its maturity period is 15 days to one year".

Identify the money market instrument stated in the above lines.

1. Call money
2. Commercial papers
3. Commercial bills
4. Certificate of Deposit

Options :

485584145917. 1
485584145918. 2
485584145919. 3
485584145920. 4

Question Number : 95 Question Id : 48558436480 Question Type : MCQ Option Shuffling : No Is Question Mandatory : No Calculator : None Response Time : N.A Think Time : N.A Minimum Instruction Time : 0

Correct Marks : 5 Wrong Marks : 1

Question Key Details :

Key	Value
Comprehension	Comp1

مسٹر ریحان نے "فائنانشل مارکیٹ اور شرکا" میں ڈپلومہ کر رکھا ہے۔ حالیہ دنوں میں انہیں ایک اسکول میں اپنے علم کو پیش کرنے اور طلباء کو ٹریننگ دینے کا موقع ملا۔ انہوں نے طلباء کو مختلف مارکیٹ انسٹرومنٹس کے بارے میں بتایا۔ انہوں نے ایک ایسے انسٹرومنٹ کے بارے میں بتایا جسے RBI حکومت کے نام پر ایشو کرتی ہے۔ انہوں نے طلباء کو بتایا کہ بینک CRR یعنی کیش ریزرو رٹیبو کو برقرار رکھنے کے لئے پیسہ قرض لینے کے ایک نظام کا استعمال کرتا ہے۔ بعد میں انہوں نے ذکر کیا کہ ایک قلیل مدتی لکویڈیٹی انسٹرومنٹ جیسے بلس آف ایکسچ جسے ورکنگ کیپیٹل کے انتظام کرنے کے لئے استعمال کیا جاتا ہے۔ انہوں نے طلباء کو ایک ایسے انسٹرومنٹ کے بارے میں بتایا جو کم وقت میں بڑی رقم بینک کو اکٹھا کرنے میں مدد کرتی ہے۔ اخیر میں مسٹر ریحان نے ایک ایسے انسٹرومنٹ کے بارے میں بتایا جو قرض دینے جانے کے لائق بڑی کمپنیوں کے لئے بینکی قرض کے بدل کے طور پر کام کرتی ہے جس کی پختگی مدت 15 سے ایک سال تک ہے۔

ایک ایسا انسٹرومنٹ جو قرض دینے جانے کے لائق بڑی کمپنیوں کے لئے بینکی قرض کے بدل کے طور پر کام کرتا ہے جس کی مدت پختگی 15 دن سے ایک سال تک ہے۔

اوپر دیے گئے عبارت میں سے اس منی مارکیٹ انسٹرومنٹ کی شناخت کریں ؟

1. کال منی
2. کمرشل پیپرز
3. کمرشل بلس
4. سرٹیفیکٹ آف ڈپازٹ

Options :

485584145917. 1
485584145918. 2
485584145919. 3
485584145920. 4

Sub-Section Number :

3

Sub-Section Id :

4855842695

Question Shuffling Allowed :

No

Is Section Default? :

null

Question Number : 96 Question Id : 48558436481 Question Type : MCQ Option Shuffling : No Is Question Mandatory : No Calculator : None Response Time : N.A Think Time : N.A Minimum Instruction Time : 0

Correct Marks : 5 Wrong Marks : 1

Question Key Details :

Key	Value
Comprehension	Comp2

Safex Ltd is a company manufacturing masks. The newly appointed marketing manager of the firm has taken 'Covid Pandemic' as an opportunity to increase sales. He used a combination of tools to achieve its communication objective. He constituted 4 teams for designing these tools.

Team 1 :- The tool used by them was an impersonal form of communication which was paid for.

Team 2:- The tool used by them involves oral presentation of message in the form of conversation with one or more prospective customers for the purpose of making sales

Team 3:- This team used short-term incentives which were designed to encourage the buyers to make immediate purchase.

Team 4:- This team used a non-personal form of communication which was non-paid.

All the teams successfully designed their tools and achieved their desired results.

The variable of marketing mix discussed in the above case is _____

1. Product mix
2. Place mix
3. Price mix
4. Promotion mix

Options :

- 485584145921. 1
- 485584145922. 2
- 485584145923. 3
- 485584145924. 4

Question Number : 96 Question Id : 48558436481 Question Type : MCQ Option Shuffling : No Is Question Mandatory : No Calculator : None Response Time : N.A Think Time : N.A Minimum Instruction Time : 0

Correct Marks : 5 Wrong Marks : 1

Question Key Details :

Key	Value
Comprehension	Comp2

Safex Ltd ماسک بنانے والی ایک کمپنی ہے۔ نئے منتخب مینجر نے کورونا وبا کو فروخت بڑھانے کیلئے ایک موقع کے طور پر لیا ہے۔ انہوں نے مواصلاتی مقصد کو حاصل کرنے کے لئے ٹولز کے مجموعہ استعمال کیا ہے۔ انہوں نے ان ٹولز کو ڈیزائن کرنے کے لئے چار ٹیم بنائی ہیں۔

ٹیم نمبر 1۔ یہ ایک غیر ذاتی مواصلاتی ٹول ہے اور جس کا پیسہ ادا کیا گیا ۔

ٹیم نمبر 2۔ یہ ٹول ایک پیغام کو زبانی طور پر گاہک کے ساتھ ایک بات چیت کی صورت میں پیش کرنے کے لئے استعمال کیا جاتا ہے تاکہ سامان کی بکری کی جا سکے ۔

ٹیم نمبر 3۔ اس ٹیم نے فوری فائدہ دینے والا ترغیبی چیزوں کا استعمال کیا جس کو اس لیئے بنایا گیا کہ گاہکوں کو فوراً خریداری کرنے کیلئے حوصلہ افزائی کی جا سکے۔

ٹیم نمبر 4۔ اس ٹیم نے ایک غیر ذاتی مواصلاتی ٹول کا استعمال کیا جس کی ادائیگی نہیں ہوئی ۔ تمام ٹیم نے کامیابی کے ساتھ ٹولز ڈیزائن کیا اور مطلوبہ رزلٹ حاصل کیا۔

مارکیٹ مکس کے عناصر اوپر مذکور ہے ؟

1. پروڈکٹس مکس
2. پلیس مکس
3. پرائز مکس
4. پروموشن مکس

Options :

485584145921. 1
485584145922. 2
485584145923. 3
485584145924. 4

Question Number : 97 Question Id : 48558436482 Question Type : MCQ Option Shuffling : No Is Question Mandatory : No Calculator : None Response Time : N.A Think Time : N.A Minimum Instruction Time : 0

Correct Marks : 5 Wrong Marks : 1

Question Key Details :

Key	Value
Comprehension	Comp2

Safex Ltd is a company manufacturing masks. The newly appointed marketing manager of the firm has taken 'Covid Pandemic' as an opportunity to increase sales. He used a combination of tools to achieve its communication objective. He constituted 4 teams for designing these tools.

Team 1 :- The tool used by them was an impersonal form of communication which was paid for.

Team 2:- The tool used by them involves oral presentation of message in the form of conversation with one or more prospective customers for the purpose of making sales

Team 3:- This team used short-term incentives which were designed to encourage the buyers to make immediate purchase.

Team 4:- This team used a non-personal form of communication which was non-paid.

All the teams successfully designed their tools and achieved their desired results.

The tool used by Team 3 was _____

1. Public relations
2. Sales promotion
3. Publicity
4. Branding

Options :

- 485584145925. 1
- 485584145926. 2
- 485584145927. 3
- 485584145928. 4

Question Number : 97 Question Id : 48558436482 Question Type : MCQ Option Shuffling : No Is Question Mandatory : No Calculator : None Response Time : N.A Think Time : N.A Minimum Instruction Time : 0

Correct Marks : 5 Wrong Marks : 1

Question Key Details :

Key	Value
Comprehension	Comp2

Safex Ltd ماسک بنانے والی ایک کمپنی ہے۔ نئے منتخب مینجر نے کورونا وبا کو فروخت بڑھانے کیلئے ایک موقع کے طور پر لیا ہے۔ انہوں نے مواصلاتی مقصد کو حاصل کرنے کے لئے ٹولز کے مجموعہ استعمال کیا ہے۔ انہوں نے ان ٹولز کو ڈیزائن کرنے کے لئے چار ٹیم بنائی ہیں۔

ٹیم نمبر 1۔ یہ ایک غیر ذاتی مواصلاتی ٹول ہے اور جس کا پیسہ ادا کیا گیا ۔

ٹیم نمبر 2۔ یہ ٹول ایک پیغام کو زبانی طور پر گاہک کے ساتھ ایک بات چیت کی صورت میں پیش کرنے کے لئے استعمال کیا جاتا ہے تاکہ سامان کی بکری کی جا سکے ۔

ٹیم نمبر 3۔ اس ٹیم نے فوری فائدہ دینے والا ترغیبی چیزوں کا استعمال کیا جس کو اس لئے بنایا گیا کہ گاہکوں کو فوراً خریداری کرنے کیلئے حوصلہ افزائی کی جا سکے۔

ٹیم نمبر 4۔ اس ٹیم نے ایک غیر ذاتی مواصلاتی ٹول کا استعمال کیا جس کی ادائیگی نہیں ہوئی ۔ تمام ٹیم نے کامیابی کے ساتھ ٹولز ڈیزائن کیا اور مطلوبہ رزلٹ حاصل کیا۔

ٹیم 3 کے ذریعے استعمال کیا گیا ٹول تھا ۔

1. پبلک ریلیشن
2. فروخت کی ترویج
3. تشہیر
4. برانڈنگ

Options :

485584145925. 1
485584145926. 2
485584145927. 3
485584145928. 4

Question Number : 98 Question Id : 48558436483 Question Type : MCQ Option Shuffling : No Is Question Mandatory : No Calculator : None Response Time : N.A Think Time : N.A Minimum Instruction Time : 0

Correct Marks : 5 Wrong Marks : 1

Question Key Details :

Key	Value
Comprehension	Comp2

Safex Ltd is a company manufacturing masks. The newly appointed marketing manager of the firm has taken 'Covid Pandemic' as an opportunity to increase sales. He used a combination of tools to achieve its communication objective. He constituted 4 teams for designing these tools.

Team 1 :- The tool used by them was an impersonal form of communication which was paid for.

Team 2:- The tool used by them involves oral presentation of message in the form of conversation with one or more prospective customers for the purpose of making sales

Team 3:- This team used short-term incentives which were designed to encourage the buyers to make immediate purchase.

Team 4:- This team used a non-personal form of communication which was non-paid.

All the teams successfully designed their tools and achieved their desired results.

The tool used by Team 4 is _____

1. Packaging
2. Advertising
3. Publicity
4. Sales promotion

Options :

- 485584145929. 1
- 485584145930. 2
- 485584145931. 3
- 485584145932. 4

Question Number : 98 Question Id : 48558436483 Question Type : MCQ Option Shuffling : No Is Question Mandatory : No Calculator : None Response Time : N.A Think Time : N.A Minimum Instruction Time : 0

Correct Marks : 5 Wrong Marks : 1

Question Key Details :

Key	Value
Comprehension	Comp2

Safex Ltd ماسک بنانے والی ایک کمپنی ہے۔ نئے منتخب مینجر نے کورونا وبا کو فروخت بڑھانے کیلئے ایک موقع کے طور پر لیا ہے۔ انہوں نے مواصلاتی مقصد کو حاصل کرنے کے لئے ٹولز کے مجموعہ استعمال کیا ہے۔ انہوں نے ان ٹولز کو ڈیزائن کرنے کے لئے چار ٹیم بنائی ہیں۔

ٹیم نمبر 1۔ یہ ایک غیر ذاتی مواصلاتی ٹول ہے اور جس کا پیسہ ادا کیا گیا ۔

ٹیم نمبر 2۔ یہ ٹول ایک پیغام کو زبانی طور پر گاہک کے ساتھ ایک بات چیت کی صورت میں پیش کرنے کے لئے استعمال کیا جاتا ہے تاکہ سامان کی بکری کی جا سکے ۔

ٹیم نمبر 3۔ اس ٹیم نے فوری فائدہ دینے والا ترغیبی چیزوں کا استعمال کیا جس کو اس لئے بنایا گیا کہ گاہکوں کو فوراً خریداری کرنے کیلئے حوصلہ افزائی کی جا سکے۔

ٹیم نمبر 4۔ اس ٹیم نے ایک غیر ذاتی مواصلاتی ٹول کا استعمال کیا جس کی ادائیگی نہیں ہوئی ۔ تمام ٹیم نے کامیابی کے ساتھ ٹولز ڈیزائن کیا اور مطلوبہ رزلٹ حاصل کیا۔

ٹیم 4 کے ذریعے استعمال کیا گیا ٹول ہے

1. بیکنگ
2. اشتہار
3. تشہیر
4. فروخت کی ترویج

Options :

485584145929. 1
485584145930. 2
485584145931. 3
485584145932. 4

Question Number : 99 Question Id : 48558436484 Question Type : MCQ Option Shuffling : No Is Question Mandatory : No Calculator : None Response Time : N.A Think Time : N.A Minimum Instruction Time : 0

Correct Marks : 5 Wrong Marks : 1

Question Key Details :

Key	Value
Comprehension	Comp2

Safex Ltd is a company manufacturing masks. The newly appointed marketing manager of the firm has taken 'Covid Pandemic' as an opportunity to increase sales. He used a combination of tools to achieve its communication objective. He constituted 4 teams for designing these tools.

Team 1 :- The tool used by them was an impersonal form of communication which was paid for.

Team 2:- The tool used by them involves oral presentation of message in the form of conversation with one or more prospective customers for the purpose of making sales

Team 3:- This team used short-term incentives which were designed to encourage the buyers to make immediate purchase.

Team 4:- This team used a non-personal form of communication which was non-paid.

All the teams successfully designed their tools and achieved their desired results.

The tool used by Team 1 is _____

1. Advertising
2. Public relations
3. Publicity
4. Personal selling

Options :

- 485584145933. 1
- 485584145934. 2
- 485584145935. 3
- 485584145936. 4

Question Number : 99 Question Id : 48558436484 Question Type : MCQ Option Shuffling : No Is Question Mandatory : No Calculator : None Response Time : N.A Think Time : N.A Minimum Instruction Time : 0

Correct Marks : 5 Wrong Marks : 1

Question Key Details :

Key	Value
Comprehension	Comp2

Safex Ltd ماسک بنانے والی ایک کمپنی ہے۔ نئے منتخب مینجر نے کورونا وبا کو فروخت بڑھانے کیلئے ایک موقع کے طور پر لیا ہے۔ انہوں نے مواصلاتی مقصد کو حاصل کرنے کے لئے ٹولز کے مجموعہ استعمال کیا ہے۔ انہوں نے ان ٹولز کو ڈیزائن کرنے کے لئے چار ٹیم بنائی ہیں۔

ٹیم نمبر 1۔ یہ ایک غیر ذاتی مواصلاتی ٹول ہے اور جس کا پیسہ ادا کیا گیا ۔

ٹیم نمبر 2۔ یہ ٹول ایک پیغام کو زبانی طور پر گاہک کے ساتھ ایک بات چیت کی صورت میں پیش کرنے کے لئے استعمال کیا جاتا ہے تاکہ سامان کی بکری کی جا سکے ۔

ٹیم نمبر 3۔ اس ٹیم نے فوری فائدہ دینے والا ترغیبی چیزوں کا استعمال کیا جس کو اس لئے بنایا گیا کہ گاہکوں کو فوراً خریداری کرنے کیلئے حوصلہ افزائی کی جا سکے۔

ٹیم نمبر 4۔ اس ٹیم نے ایک غیر ذاتی مواصلاتی ٹول کا استعمال کیا جس کی ادائیگی نہیں ہوئی ۔ تمام ٹیم نے کامیابی کے ساتھ ٹولز ڈیزائن کیا اور مطلوبہ رزلٹ حاصل کیا۔

ٹیم 1 کے ذریعے استعمال کیا گیا ٹول ہے

1. اشتہار

2. بینک ریلیشن

3. تشہیر

4. ذاتی فروخت

Options :

485584145933. 1

485584145934. 2

485584145935. 3

485584145936. 4

Question Number : 100 Question Id : 48558436485 Question Type : MCQ Option Shuffling : No Is Question Mandatory : No Calculator : None Response Time : N.A Think Time : N.A Minimum Instruction Time : 0

Correct Marks : 5 Wrong Marks : 1

Question Key Details :

Key	Value
Comprehension	Comp2

Safex Ltd is a company manufacturing masks. The newly appointed marketing manager of the firm has taken 'Covid Pandemic' as an opportunity to increase sales. He used a combination of tools to achieve its communication objective. He constituted 4 teams for designing these tools.

Team 1 :- The tool used by them was an impersonal form of communication which was paid for.

Team 2:- The tool used by them involves oral presentation of message in the form of conversation with one or more prospective customers for the purpose of making sales

Team 3:- This team used short-term incentives which were designed to encourage the buyers to make immediate purchase.

Team 4:- This team used a non-personal form of communication which was non-paid.

All the teams successfully designed their tools and achieved their desired results.

The tool used by Team 2 is _____

1. Public relations
2. Personal selling
3. Advertising
4. Publicity

Options :

- 485584145937. 1
- 485584145938. 2
- 485584145939. 3
- 485584145940. 4

Question Number : 100 Question Id : 48558436485 Question Type : MCQ Option Shuffling : No Is Question Mandatory : No Calculator : None Response Time : N.A Think Time : N.A Minimum Instruction Time : 0

Correct Marks : 5 Wrong Marks : 1

Question Key Details :

Key	Value
Comprehension	Comp2

Safex Ltd ماسک بنانے والی ایک کمپنی ہے۔ نئے منتخب مینجر نے کورونا وبا کو فروخت بڑھانے کیلئے ایک موقع کے طور پر لیا ہے۔ انہوں نے مواصلاتی مقصد کو حاصل کرنے کے لئے ٹولز کے مجموعہ استعمال کیا ہے۔ انہوں نے ان ٹولز کو ڈیزائن کرنے کے لئے چار ٹیم بنائی ہیں۔

ٹیم نمبر 1۔ یہ ایک غیر ذاتی مواصلاتی ٹول ہے اور جس کا پیسہ ادا کیا گیا۔

ٹیم نمبر 2۔ یہ ٹول ایک پیغام کو زبانی طور پر گاہک کے ساتھ ایک بات چیت کی صورت میں پیش کرنے کے لئے استعمال کیا جاتا ہے تاکہ سامان کی بکری کی جا سکے۔

ٹیم نمبر 3۔ اس ٹیم نے فوری فائدہ دینے والا ترغیبی چیزوں کا استعمال کیا جس کو اس لینے بنایا گیا کہ گاہکوں کو فوراً خریداری کرنے کیلئے حوصلہ افزائی کی جا سکے۔

ٹیم نمبر 4۔ اس ٹیم نے ایک غیر ذاتی مواصلاتی ٹول کا استعمال کیا جس کی ادائیگی نہیں ہوئی۔ تمام ٹیم نے کامیابی کے ساتھ ٹولز ڈیزائن کیا اور مطلوبہ رزلٹ حاصل کیا۔

ٹیم 2 کے ذریعے استعمال کیا گیا ٹول ہے

1. بیلک ریلیشن
2. ذاتی فروخت
3. اشتہار
4. تشہیر

Options :

485584145937. 1
485584145938. 2
485584145939. 3
485584145940. 4

History

Group Number :	4
Group Id :	485584824
Group Maximum Duration :	45
Group Minimum Duration :	45
Show Attended Group? :	No
Edit Attended Group? :	No
Break time :	0
Group Marks :	200
Is this Group for Examiner? :	No
Examiner permission :	Cant View
Show Progress Bar? :	No

History

Section Id :	485584948
Section Number :	1
Section type :	Online
Mandatory or Optional :	Mandatory

Number of Questions :	50
Number of Questions to be attempted :	40
Section Marks :	200
Enable Mark as Answered Mark for Review and Clear Response :	Yes
Maximum Instruction Time :	0
Sub-Section Number :	1
Sub-Section Id :	4855842696
Question Shuffling Allowed :	Yes
Is Section Default? :	null

Question Number : 101 Question Id : 48558436486 Question Type : MCQ Option Shuffling : No Is Question Mandatory : No Calculator : None Response Time : N.A Think Time : N.A Minimum Instruction Time : 0

Correct Marks : 5 Wrong Marks : 1

Question Key Details :

Key	Value
Comprehension	MCQ

Who made the following statement: "Marshall left India three thousand years older than he had found her."

1. Daya Ram Sahni
2. Rakhal Das Banerji
3. R.E. M. Wheeler
4. S.N. Roy

Options :

485584145941. 1
485584145942. 2
485584145943. 3
485584145944. 4

Question Number : 101 Question Id : 48558436486 Question Type : MCQ Option Shuffling : No Is Question Mandatory : No Calculator : None Response Time : N.A Think Time : N.A Minimum Instruction Time : 0

Correct Marks : 5 Wrong Marks : 1

Question Key Details :

Key	Value
Comprehension	MCQ

مندرجہ ذیل بیان کس کا ہے "مارشل نے ہندوستان کو جس طرح پایا اس سے تین ہزار سال قبل کا چھوڑ دیا،؟"

1. (Daya Ram Sahni) دایا رام ساہنی
2. (Rakhal Das Banerji) راکھل داس بینرجی
3. (R.E. M. Wheeler) آر ای ایم ویلر
4. (S.N. Roy) ایس این رائے

Options :

485584145941. 1
485584145942. 2
485584145943. 3

485584145944. 4

Question Number : 102 Question Id : 48558436487 Question Type : MCQ Option Shuffling : No Is Question Mandatory : No Calculator : None Response Time : N.A Think Time : N.A Minimum Instruction Time : 0

Correct Marks : 5 Wrong Marks : 1

Question Key Details :

Key	Value
Comprehension	MCQ

Archaeological study of a mound can provide cultural sequence for a site. Study of such layers is called _____.

1. Ethnography
2. Stratigraphy
3. Epigraphy
4. Sociography

Options :

485584145945. 1
485584145946. 2
485584145947. 3
485584145948. 4

Question Number : 102 Question Id : 48558436487 Question Type : MCQ Option Shuffling : No Is Question Mandatory : No Calculator : None Response Time : N.A Think Time : N.A Minimum Instruction Time : 0

Correct Marks : 5 Wrong Marks : 1

Question Key Details :

Key	Value
Comprehension	MCQ

ایک ٹیلے کی آثار قدیمہ کے مطالعے کے ذریعے سے اس جگہ کی ثقافتی سلسلہ کا پتہ چلتا ہے۔ اس طرح کے پرت در پرت مطالعے کرنے کو کیا کہا جاتا ہے؟

1. (Ethnography) حثریات
2. (Stratigraphy) علم طبقات الارض
3. (Epigraphy) علم کتبات
4. (Sociography) علم معاشیات

Options :

485584145945. 1
485584145946. 2
485584145947. 3
485584145948. 4

Question Number : 103 Question Id : 48558436488 Question Type : MCQ Option Shuffling : No Is Question Mandatory : No Calculator : None Response Time : N.A Think Time : N.A Minimum Instruction Time : 0

Correct Marks : 5 Wrong Marks : 1

Question Key Details :

Key	Value
Comprehension	MCQ

Which of the following Harappan sites were located near the coast?

1. Banawali and Rakhigarhi
2. Nageshwar and Balakot
3. Ganweriwala and Mitathal
4. Kot-Diji and Kalibangan

Options :

485584145949. 1
485584145950. 2
485584145951. 3
485584145952. 4

Question Number : 103 Question Id : 48558436488 Question Type : MCQ Option Shuffling : No Is Question Mandatory : No Calculator : None Response Time : N.A Think Time : N.A Minimum Instruction Time : 0

Correct Marks : 5 Wrong Marks : 1

Question Key Details :

Key	Value
Comprehension	MCQ

مندرجہ ذیل میں سے کون سی بڑیا کی جگہ ساحل کے نزدیک واقع ہے؟

1. (Banawali and Rakhigarhi) باناوالی اور راکھی گڑھی
2. (Nageshwar and Balakot) ناگیشور اور بالاکوٹ
3. (Ganweriwala and Mitathal) گنویری والا اور میٹاتھل
4. (Kot-Diji and Kalibangan) کوٹ دیجی اور کالی بنگن

Options :

485584145949. 1
485584145950. 2
485584145951. 3
485584145952. 4

Question Number : 104 Question Id : 48558436489 Question Type : MCQ Option Shuffling : No Is Question Mandatory : No Calculator : None Response Time : N.A Think Time : N.A Minimum Instruction Time : 0

Correct Marks : 5 Wrong Marks : 1

Question Key Details :

Key	Value
Comprehension	MCQ

Who among the following is often held as the 'Father of Indian Archaeology'?

1. John Marshall
2. Alexander Cunningham
3. James Prinsep
4. R.E.M. Wheeler

Options :

485584145953. 1
485584145954. 2
485584145955. 3
485584145956. 4

Question Number : 104 Question Id : 48558436489 Question Type : MCQ Option Shuffling : No Is Question Mandatory : No Calculator : None Response Time : N.A Think Time : N.A Minimum Instruction Time : 0

Correct Marks : 5 Wrong Marks : 1

Question Key Details :

Key	Value
Comprehension	MCQ

مندرجہ ذیل میں سے کس کو ہندوستانی آثار قدیمہ کا بانی سمجھا جاتا ہے:

1. (John Marshall) جان مارشل
2. (Alexander Cunningham) الیگزینڈر کوننگھام
3. (James Prinsep) جیمس پرنسیپ
4. (R.E.M. Wheeler) آر ای ایم ویلر

Options :

485584145953. 1
485584145954. 2
485584145955. 3
485584145956. 4

Question Number : 105 Question Id : 48558436490 Question Type : MCQ Option Shuffling : No Is Question Mandatory : No Calculator : None Response Time : N.A Think Time : N.A Minimum Instruction Time : 0

Correct Marks : 5 Wrong Marks : 1

Question Key Details :

Key	Value
Comprehension	MCQ

Traces of canals have been found at the Harappan site of Shortughai, which is located in _____.

1. Punjab
2. Sind
3. Afghanistan
4. Gujarat

Options :

485584145957. 1
485584145958. 2
485584145959. 3
485584145960. 4

Question Number : 105 Question Id : 48558436490 Question Type : MCQ Option Shuffling : No Is Question Mandatory : No Calculator : None Response Time : N.A Think Time : N.A Minimum Instruction Time : 0

Correct Marks : 5 Wrong Marks : 1

Question Key Details :

Key	Value
Comprehension	MCQ

شورتگائی بڑیا جہاں نہروں کے شناخت پائے گئے کہاں پر واقع ہے:

1. پنجاب
2. سندھ
3. افغانستان
4. گجرات

Options :

485584145957. 1
485584145958. 2
485584145959. 3
485584145960. 4

Question Number : 106 Question Id : 48558436491 Question Type : MCQ Option Shuffling : No Is Question Mandatory : No Calculator : None Response Time : N.A Think Time : N.A Minimum Instruction Time : 0

Correct Marks : 5 Wrong Marks : 1

Question Key Details :

Key	Value
Comprehension	MCQ

In ancient India, the first coins to bear the names and images of the rulers were issued by the _____.

1. Indo-Greeks
2. Kushans
3. Parthians
4. Shakas

Options :

485584145961. 1
485584145962. 2
485584145963. 3
485584145964. 4

Question Number : 106 Question Id : 48558436491 Question Type : MCQ Option Shuffling : No Is Question Mandatory : No Calculator : None Response Time : N.A Think Time : N.A Minimum Instruction Time : 0

Correct Marks : 5 Wrong Marks : 1

Question Key Details :

Key	Value
Comprehension	MCQ

قدیم ہندوستان میں، پہلا سکہ جس پر حکمران کی تصویر اور نام تھا، کس نے جاری کیا۔

1. (Indo-Greeks) ہند و یونان
2. (Kushans) کشان
3. (Parthians) پار تھی
4. (Shakas) شاکا

Options :

485584145961. 1
485584145962. 2
485584145963. 3
485584145964. 4

Question Number : 107 Question Id : 48558436492 Question Type : MCQ Option Shuffling : No Is Question Mandatory : No Calculator : None Response Time : N.A Think Time : N.A Minimum Instruction Time : 0

Correct Marks : 5 Wrong Marks : 1

Question Key Details :

Key	Value
Comprehension	MCQ

Which place are you visiting if you come across the lion capital built by Asoka?

1. Varanasi
2. Delhi
3. Sarnath
4. Ujjayini

Options :

485584145965. 1
485584145966. 2
485584145967. 3
485584145968. 4

Question Number : 107 Question Id : 48558436492 Question Type : MCQ Option Shuffling : No Is Question Mandatory : No Calculator : None Response Time : N.A Think Time : N.A Minimum Instruction Time : 0

Correct Marks : 5 Wrong Marks : 1

Question Key Details :

Key	Value
Comprehension	MCQ

اگر آپ اشوک کی تعمیر کردہ لائن کپیٹل (lion capital) کا سفر کریں تو کس جگہ پر جانا ہوگا:

1. وارانسی
2. دہلی
3. سرناٹھ
4. اجینی

Options :

485584145965. 1
485584145966. 2
485584145967. 3
485584145968. 4

Question Number : 108 Question Id : 48558436493 Question Type : MCQ Option Shuffling : No Is Question Mandatory : No Calculator : None Response Time : N.A Think Time : N.A Minimum Instruction Time : 0

Correct Marks : 5 Wrong Marks : 1

Question Key Details :

Key	Value
Comprehension	MCQ

Prabhavati Gupta was the daughter of _____.

1. Chandragupta II
2. Samudragupta
3. Chandragupta Maurya
4. Skandgupta

Options :

485584145969. 1
485584145970. 2
485584145971. 3
485584145972. 4

Question Number : 108 Question Id : 48558436493 Question Type : MCQ Option Shuffling : No Is Question Mandatory : No Calculator : None Response Time : N.A Think Time : N.A Minimum Instruction Time : 0

Correct Marks : 5 Wrong Marks : 1

Question Key Details :

Key	Value
Comprehension	MCQ

پر بھونئی گپنا کس کی بیٹی تھی؟

1. چندرہ گپنا دوم
2. سمدر گپت
3. چندر گپت موریا
4. سکند گپت

Options :

485584145969. 1
485584145970. 2
485584145971. 3
485584145972. 4

Question Number : 109 Question Id : 48558436494 Question Type : MCQ Option Shuffling : No Is Question Mandatory : No Calculator : None Response Time : N.A Think Time : N.A Minimum Instruction Time : 0

Correct Marks : 5 Wrong Marks : 1

Question Key Details :

Key	Value
Comprehension	MCQ

Which of the following statements are **correct**?

- A. The Dharmasutras and Dharmashastras recognised as many as twelve forms of marriages.
- B. People were classified into gotras and each gotra was named after a Vedic seer.
- C. Jatis, which shared a common occupation, were sometimes organised into shrenis or guilds.
- D. Women were allowed to retain the gifts they received on their marriage as 'Stridhana' to be inherited by their children.
- E. Matriliney is the term used when descent is traced through the mother.

Choose the **correct** answer from the options given below:

- 1. A, B, C, E only
- 2. A, C, D, E only
- 3. B, C, D, E only
- 4. A, B, D, E only

Options :

- 485584145973. 1
- 485584145974. 2
- 485584145975. 3
- 485584145976. 4

Question Number : 109 Question Id : 48558436494 Question Type : MCQ Option Shuffling : No Is Question Mandatory : No Calculator : None Response Time : N.A Think Time : N.A Minimum Instruction Time : 0

Correct Marks : 5 Wrong Marks : 1

Question Key Details :

Key	Value
Comprehension	MCQ

مندرجہ ذیل میں کون سے بیانات درست ہیں:

- A. دھرما سوترا اور دھرماشااسترا نے شادی کی بارہ قسموں کو تسلیم کیا۔
- B. لوگوں کو گوترا میں تقسیم کیا گیا اور ہر ایک گوترا کا نام ایک ویدک فقیر پر رکھا گیا۔
- C. جاتیاں جو ایک جیسا پیشہ رکھتی تھیں کبھی کبھار شرینز (shrenis) یا گیلڈ (guilds) کے طور پر منظم ہوئے تھے۔
- D. عورتوں کو شادی کے موقع پر "استری دھن" (Stridhana) کے طور پر جو تحفے ملتے تھے انہیں اجازت تھی کہ اپنے پاس رکھیں اور بچوں کو وراثت میں حصہ دیں۔
- E. مادر نسبتی اصطلاح کو ماں کی طرف سے حسب نسب کا پتہ لگانے کے لئے استعمال میں کی جاتی تھی۔

دیے گئے زمروں میں سے درست جواب کا انتخاب کریں۔

- 1. A, B, C, E only
- 2. A, C, D, E only
- 3. B, C, D, E only
- 4. A, B, D, E only

Options :

- 485584145973. 1
- 485584145974. 2

485584145975. 3

485584145976. 4

Question Number : 110 Question Id : 48558436495 Question Type : MCQ Option Shuffling : No Is Question Mandatory : No Calculator : None Response Time : N.A Think Time : N.A Minimum Instruction Time : 0

Correct Marks : 5 Wrong Marks : 1

Question Key Details :

Key	Value
Comprehension	MCQ

What did Ibn Battuta observe when he visited the city of Delhi?

- A. Its beautiful temple architecture in every part of the city.
- B. Its fine cemetery with domes and arches.
- C. Its imposing stupa in the heart of the city.
- D. Its twenty-eight big darwazas.
- E. Its many waterfalls within the city.

Choose the **correct** answer from the options given below:

- 1. A, B only
- 2. C, D only
- 3. B, D only
- 4. D, E only

Options :

485584145977. 1

485584145978. 2

485584145979. 3

485584145980. 4

Question Number : 110 Question Id : 48558436495 Question Type : MCQ Option Shuffling : No Is Question Mandatory : No Calculator : None Response Time : N.A Think Time : N.A Minimum Instruction Time : 0

Correct Marks : 5 Wrong Marks : 1

Question Key Details :

Key	Value
Comprehension	MCQ

ابن بطوطہ جب دہلی آیا تو اس نے کیا مشاہدہ کیا:

- A. دہلی کے ہر کونے میں خوبصورت مندروں کے تعمیراتی نمونے ہیں۔
B. اس کے عمدہ قبرستان محراب و گنبد کے ساتھ۔
C. اس کا شہر کے بیچوں بیچ بڑا اسٹوپا (stupa)
D. اس کے آٹھائیس بڑے دروازے
E. شہر کے اندر بہت سارے چھرنے ہیں۔

دیے گئے زمروں میں سے درست جواب کا انتخاب کریں۔

1. A and B only
2. C and D only
3. B and D only
4. D and E only

Options :

485584145977. 1
485584145978. 2
485584145979. 3
485584145980. 4

Question Number : 111 Question Id : 48558436496 Question Type : MCQ Option Shuffling : No Is Question Mandatory : No Calculator : None Response Time : N.A Think Time : N.A Minimum Instruction Time : 0

Correct Marks : 5 Wrong Marks : 1

Question Key Details :

Key	Value
Comprehension	MCQ

Match List I with List II:

LIST I (Traders)		LIST II (Countries)	
A.	Nicolo de Conti	I.	England
B.	Duarte Barbosa	II.	Italy
C.	Peter Mundy	III.	Russia
D.	Afanasii Nikitin	IV.	Portugal

Choose the **correct** answer from the options given below:

1. A-II, B-I, C-III, D-IV
2. A-II, B-III, C-IV, D-I
3. A-IV, B-III, C-II, D-I
4. A-II, B-IV, C-I, D-III

Options :

485584145981. 1
485584145982. 2
485584145983. 3

Question Number : 111 Question Id : 48558436496 Question Type : MCQ Option Shuffling : No Is Question Mandatory : No Calculator : None Response Time : N.A Think Time : N.A Minimum Instruction Time : 0

Correct Marks : 5 Wrong Marks : 1

Question Key Details :

Key	Value
Comprehension	MCQ

فہرست I کو فہرست II کے ساتھ ملائیں۔

فہرست II ممالک		فہرست I تجار	
I	انگلینڈ	A	نکلو دی کوٹھی
II	اٹلی	B	ہوارکے ہارپوسہ
III	روس	C	پیٹر منڈی
IV	یرنگال	D	افناسی نیگٹین

دیے گئے انتخابات میں سے درست جواب لکھیں۔

1. A-II, B-I, C-III, D-IV
2. A-II, B-III, C-IV, D-I
3. A-IV, B-III, C-II, D-I
4. A-II, B-IV, C-I, D-III

Options :

485584145981. 1
485584145982. 2
485584145983. 3
485584145984. 4

Question Number : 112 Question Id : 48558436497 Question Type : MCQ Option Shuffling : No Is Question Mandatory : No Calculator : None Response Time : N.A Think Time : N.A Minimum Instruction Time : 0

Correct Marks : 5 Wrong Marks : 1

Question Key Details :

Key	Value
Comprehension	MCQ

Match List I with List II:

LIST I		LIST II	
A.	Alvars	I.	Bijak
B.	Virashaiva	II.	Tevaram
C.	Nayanars	III.	Nalayira Divyaprabandham
D.	Kabir	IV.	Vachanas

Choose the **correct** answer from the options given below:

1. A-I, B-IV, C-III, D-II
2. A-III, B-IV, C-II, D-I
3. A-II, B-I, C-III, D-IV
4. A-IV, B-III, C-I, D-II

Options :

485584145985. 1
485584145986. 2
485584145987. 3
485584145988. 4

Question Number : 112 Question Id : 48558436497 Question Type : MCQ Option Shuffling : No Is Question Mandatory : No Calculator : None Response Time : N.A Think Time : N.A Minimum Instruction Time : 0

Correct Marks : 5 Wrong Marks : 1

Question Key Details :

Key	Value
Comprehension	MCQ

فہرست I کو فہرست II سے ملائیے۔

فہرست II		فہرست I	
I.	بیجک	A.	الور
II.	توارام	B.	ویراشیوا
III.	نیلایرا دیویا پرابندھن	C.	نایانار
IV.	واجنا	D.	کبیر

دیے گئے زمروں میں سے درست جواب کا انتخاب کریں۔

1. A-I, B-IV, C-III, D-II
2. A-III, B-IV, C-II, D-I
3. A-II, B-I, C-III, D-IV
4. A-IV, B-III, C-I, D-II

Options :

485584145985. 1
485584145986. 2
485584145987. 3
485584145988. 4

Question Number : 113 Question Id : 48558436498 Question Type : MCQ Option Shuffling : No Is Question Mandatory : No Calculator : None Response Time : N.A Think Time : N.A Minimum Instruction Time : 0

Correct Marks : 5 Wrong Marks : 1

Question Key Details :

Key	Value
Comprehension	MCQ

Match List I with List II:

LIST I (Sufi Teachers)		LIST II (Year of Death)	
A.	Muinuddin Sijzi	I.	1265
B.	Fariduddin Ganj-i-Shakar	II.	1235
C.	Nizamuddin Auliya	III.	1356
D.	Nasiruddin Chirag	IV.	1325

Choose the correct answer from the options given below:

1. A-II, B-III, C-I, D-IV
2. A-I, B-II, C-III, D-IV
3. A-II, B-I, C-IV, D-III
4. A-IV, B-III, C-I, D-II

Options :

- 485584145989. 1
- 485584145990. 2
- 485584145991. 3
- 485584145992. 4

Question Number : 113 Question Id : 48558436498 Question Type : MCQ Option Shuffling : No Is Question Mandatory : No Calculator : None Response Time : N.A Think Time : N.A Minimum Instruction Time : 0

Correct Marks : 5 Wrong Marks : 1

Question Key Details :

Key	Value
Comprehension	MCQ

فہرست I کو فہرست II سے ملائیں۔

فہرست II (سال وفات)	فہرست I (صوفی استاذ)
1265 .I	A. معین الدین سنجرى
1235 .II	B. فرید الدین گنج شکر
1356 .III	C. نظام الدین اولیا
1325 .IV	D. نصیر الدین چراغ

دیے گئے زمروں میں سے درست جواب کا انتخاب کریں۔

1. A-II, B-III, C-I, D-IV
2. A-I, B-II, C-III, D-IV
3. A-II, B-I, C-IV, D-III
4. A-IV, B-III, C-I, D-II

Options :

485584145989. 1
485584145990. 2
485584145991. 3
485584145992. 4

Question Number : 114 Question Id : 48558436499 Question Type : MCQ Option Shuffling : No Is Question Mandatory : No Calculator : None Response Time : N.A Think Time : N.A Minimum Instruction Time : 0

Correct Marks : 5 Wrong Marks : 1

Question Key Details :

Key	Value
Comprehension	MCQ

Choose the **incorrect** statement out of the following:

1. Guru Nanak rejected the sacrifices and rituals of both Hindus and Muslims.
2. Guru Nanak did not wish to establish his own new religion.
3. Guru Nanak advocated the form of Nirguna Bhakti.
4. Guru Nanak appointed one his disciple 'Angad' to succeed him as the perceptor.

Options :

485584145993. 1
485584145994. 2
485584145995. 3
485584145996. 4

Question Number : 114 Question Id : 48558436499 Question Type : MCQ Option Shuffling : No Is Question Mandatory : No Calculator : None Response Time : N.A Think Time : N.A Minimum Instruction Time : 0

Correct Marks : 5 Wrong Marks : 1

Question Key Details :

Key	Value
Comprehension	MCQ

مندرجہ ذیل سے غلط بیان کا انتخاب کریں۔

1. گرونانک نے ہندو اور مسلمان دونوں کی قربانیوں اور رسموں کو خارج کیا۔
2. گرونانک کی خواہش نہیں تھی کہ ایک اپنا مذہب تیار کرے۔
3. گرونانک نے نرگونہ بھکتی کی وکالت کی۔
4. گرونانک نے اپنے مرید انگد (Angad) کو اپنا جانشین بنایا۔

Options :

485584145993. 1
485584145994. 2
485584145995. 3
485584145996. 4

Question Number : 115 Question Id : 48558436500 Question Type : MCQ Option Shuffling : No Is Question Mandatory : No Calculator : None Response Time : N.A Think Time : N.A Minimum Instruction Time : 0

Correct Marks : 5 Wrong Marks : 1

Question Key Details :

Key	Value
Comprehension	MCQ

Chronologically arrange the landmark events in the discovery of Vijayanagara.

- A. Conservation under John Marshall.
- B. Documentation of temple inscriptions by J.F. Fleet.
- C. Survey of Vijayanagara by Colin Mackenzie.
- D. Status of world heritage site by UNESCO.
- E. Photography of the archaeological site under Alexander Greenlaw.

Choose the **correct** answer from the options given below:

1. C, E, B, A, D
2. B, D, A, E, C
3. C, D, A, B, E
4. E, A, C, D, B

Options :

485584145997. 1
485584145998. 2
485584145999. 3
485584146000. 4

Question Number : 115 Question Id : 48558436500 Question Type : MCQ Option Shuffling : No Is Question Mandatory : No Calculator : None Response Time : N.A Think Time : N.A Minimum Instruction Time : 0

Correct Marks : 5 Wrong Marks : 1

Question Key Details :

Key	Value
Comprehension	MCQ

وجے نگر کی دریافت میں مندرجہ ذیل امتیازی نشانات کو تاریخی اعتبار سے ترتیب دیں۔

- A. جان مارشل کے زیر نگرانی تحفظ
B. جے ایف فلیٹ ذریعے مندروں کے مخطوطے کی دستاویزات تیار کرنا۔
C. کولین میکزی کا وجے نگر کا سروے۔
D. UNESCO کے ذریعے وورلڈ ہیٹھیج کا مقام ملنا۔
E. الیگزینڈر گرین کا آثار قدیمہ کے مقامات کی تصویر کشی کرنا۔

دیے گئے انتخابات میں سے درست جواب کو چنیں۔

1. C, E, B, A, D
2. B, D, A, E, C
3. C, D, A, B, E
4. E, A, C, D, B

Options :

485584145997. 1
485584145998. 2
485584145999. 3
485584146000. 4

Question Number : 116 Question Id : 48558436501 Question Type : MCQ Option Shuffling : No Is Question Mandatory : No Calculator : None Response Time : N.A Think Time : N.A Minimum Instruction Time : 0

Correct Marks : 5 Wrong Marks : 1

Question Key Details :

Key	Value
Comprehension	MCQ

Arrange the following dynasties in a chronological order.

- A. Tuluva dynasty
- B. Saluva dynasty
- C. Aravidu dynasty
- D. Sangama dynasty

Choose the **correct** answer from the options given below:

1. A, B, C, D
2. A, B, D, C
3. C, D, A, B
4. D, B, A, C

Options :

485584146001. 1
485584146002. 2
485584146003. 3
485584146004. 4

Question Number : 116 Question Id : 48558436501 Question Type : MCQ Option Shuffling : No Is Question Mandatory : No Calculator : None Response Time : N.A Think Time : N.A Minimum Instruction Time : 0

Correct Marks : 5 Wrong Marks : 1

Question Key Details :

Key	Value
Comprehension	MCQ

مندرجہ ذیل شہنشاہی خاندانوں کو تاریخی اعتبار سے ترتیب دیں۔

- A. تولووا شہنشاہی خاندان
B. سالووا شہنشاہی خاندان
C. از اویدو شہنشاہی خاندان
D. سنگاما شہنشاہی خاندان

مندرجہ ذیل زمروں میں سے درست جواب کا انتخاب کریں۔

1. A, B, C, D
2. A, B, D, C
3. C, D, A, B
4. D, B, A, C

Options :

485584146001. 1
485584146002. 2
485584146003. 3
485584146004. 4

Question Number : 117 Question Id : 48558436502 Question Type : MCQ Option Shuffling : No Is Question Mandatory : No Calculator : None Response Time : N.A Think Time : N.A Minimum Instruction Time : 0

Correct Marks : 5 Wrong Marks : 1

Question Key Details :

Key	Value
Comprehension	MCQ

What is a 'Gopuram' in the context of Vijayanagara Empire?

1. Mandapa
2. Platform
3. Shrine
4. Gateway

Options :

485584146005. 1

485584146006. 2
485584146007. 3
485584146008. 4

Question Number : 117 Question Id : 48558436502 Question Type : MCQ Option Shuffling : No Is Question Mandatory : No Calculator : None Response Time : N.A Think Time : N.A Minimum Instruction Time : 0

Correct Marks : 5 Wrong Marks : 1

Question Key Details :

Key	Value
Comprehension	MCQ

وجے نگر کے پس منظر میں (گوپورام) کیا ہے؟

1. (Mandapa) منڈپا
2. (Platform) پلیٹ فارم
3. (Shrine) مقبرہ
4. (Gateway) گیٹ وے

Options :

485584146005. 1
485584146006. 2
485584146007. 3
485584146008. 4

Question Number : 118 Question Id : 48558436503 Question Type : MCQ Option Shuffling : No Is Question Mandatory : No Calculator : None Response Time : N.A Think Time : N.A Minimum Instruction Time : 0

Correct Marks : 5 Wrong Marks : 1

Question Key Details :

Key	Value
Comprehension	MCQ

Vijayanagara kings claimed to rule on behalf of the God _____.

1. Pampadevi
2. Virupaksha
3. Vitthala
4. Rama

Options :

485584146009. 1
485584146010. 2
485584146011. 3
485584146012. 4

Question Number : 118 Question Id : 48558436503 Question Type : MCQ Option Shuffling : No Is Question Mandatory : No Calculator : None Response Time : N.A Think Time : N.A Minimum Instruction Time : 0

Correct Marks : 5 Wrong Marks : 1

Question Key Details :

Key	Value
Comprehension	MCQ

وجے نگر کے راجا نے کون سے خدا کے نام پر حکومت کرنے کا دعویٰ کیا تھا:

1. پاما دیوی (Pamadevi)
2. ویروپکشا (Virupaksha)
3. ویتھالا (Vitthala)
4. راما (Rama)

Options :

485584146009. 1
485584146010. 2
485584146011. 3
485584146012. 4

Question Number : 119 Question Id : 48558436504 Question Type : MCQ Option Shuffling : No Is Question Mandatory : No Calculator : None Response Time : N.A Think Time : N.A Minimum Instruction Time : 0

Correct Marks : 5 Wrong Marks : 1

Question Key Details :

Key	Value
Comprehension	MCQ

The Vijayanagara Empire was known to its contemporaries as _____.

1. Maharashtra Samrajyamu
2. Andhra Samrajyamu
3. Tamil Samrajyamu
4. Karnataka Samrajyamu

Options :

485584146013. 1
485584146014. 2
485584146015. 3
485584146016. 4

Question Number : 119 Question Id : 48558436504 Question Type : MCQ Option Shuffling : No Is Question Mandatory : No Calculator : None Response Time : N.A Think Time : N.A Minimum Instruction Time : 0

Correct Marks : 5 Wrong Marks : 1

Question Key Details :

Key	Value
Comprehension	MCQ

وجے نگر کی سلطنت اپنے معاصرین میں کس نام سے جانی جاتی تھی؟

1. مہار اشٹرا سامراجیامو
2. آندھرا سامراجیامو
3. تمل سامراجیامو
4. کرناٹکا سامراجیامو

Options :

485584146013. 1
485584146014. 2
485584146015. 3
485584146016. 4

Question Number : 120 Question Id : 48558436505 Question Type : MCQ Option Shuffling : No Is Question Mandatory : No Calculator : None Response Time : N.A Think Time : N.A Minimum Instruction Time : 0

Correct Marks : 5 Wrong Marks : 1

Question Key Details :

Key	Value
Comprehension	MCQ

In the 17th century, Indo-Persian sources, the term for non-resident cultivators, who belonged to some other village but cultivated land elsewhere on contractual basis, were known as _____.

1. Khud-Kashta
2. Pahi-Kashta
3. Muqaddam
4. Muzarian

Options :

485584146017. 1
485584146018. 2
485584146019. 3
485584146020. 4

Question Number : 120 Question Id : 48558436505 Question Type : MCQ Option Shuffling : No Is Question Mandatory : No Calculator : None Response Time : N.A Think Time : N.A Minimum Instruction Time : 0

Correct Marks : 5 Wrong Marks : 1

Question Key Details :

Key	Value
Comprehension	MCQ

سترہویں صدی کے فارسی ماخذ میں اصطلاح، جو غیر مستقل کاشتکاری بائندے جو کسی دوسرے گاؤں سے تعلق رکھتے ہوں۔ لیکن وہ زمین کی کاشتکاری کہیں اور کرتے ہوں معاہداتی (contractual) طور پر کہا جاتا ہے۔

1. خود کاشت
2. پابی کاشت
3. مقدم
4. موزارین (Muzarian)

Options :

485584146017. 1
485584146018. 2
485584146019. 3
485584146020. 4

Question Number : 121 Question Id : 48558436506 Question Type : MCQ Option Shuffling : No Is Question Mandatory : No Calculator : None Response Time : N.A Think Time : N.A Minimum Instruction Time : 0

Correct Marks : 5 Wrong Marks : 1

Question Key Details :

Key	Value
Comprehension	MCQ

Identify the **correct** sequence of the chronicles written during the Mughal period.

- A. Akbar Nama
- B. Alamgir Nama
- C. Char Chaman
- D. Jahangir Nama
- E. Humayun Nama

Choose the **correct** answer from the options given below:

1. A, C, B, D, E
2. A, D, B, C, E
3. E, A, B, D, C
4. E, A, D, C, B

Options :

485584146021. 1
485584146022. 2
485584146023. 3
485584146024. 4

Question Number : 121 Question Id : 48558436506 Question Type : MCQ Option Shuffling : No Is Question Mandatory : No Calculator : None Response Time : N.A Think Time : N.A Minimum Instruction Time : 0

Correct Marks : 5 Wrong Marks : 1

Question Key Details :

Key	Value
-----	-------

مغلیہ عہد میں لکھی گئی تواریخ کو درست ترتیب دیں۔

- A. اکبر نامہ
B. عالمگیر نامہ
C. چار چمن
D. جہانگیر نامہ
E. ہمایوں نامہ

دیے گئے زمروں میں درست جواب کا انتخاب کریں۔

1. A, C, B, D, E
2. A, D, B, C, E
3. E, A, B, D, C
4. E, A, D, C, B

Options :

485584146021. 1
485584146022. 2
485584146023. 3
485584146024. 4

Question Number : 122 Question Id : 48558436507 Question Type : MCQ Option Shuffling : No Is Question Mandatory : No Calculator : None Response Time : N.A Think Time : N.A Minimum Instruction Time : 0

Correct Marks : 5 Wrong Marks : 1

Question Key Details :

Key	Value
Comprehension	MCQ

Which minister looked after the finances in the Mughal Empire?

1. Sadr-us-Sadur
2. Diwan-i-Ala
3. Mir Bakshi
4. Mir Saman

Options :

485584146025. 1
485584146026. 2
485584146027. 3
485584146028. 4

Question Number : 122 Question Id : 48558436507 Question Type : MCQ Option Shuffling : No Is Question Mandatory : No Calculator : None Response Time : N.A Think Time : N.A Minimum Instruction Time : 0

Correct Marks : 5 Wrong Marks : 1

Question Key Details :

Key	Value

مغلیہ سلطنت میں کون سا وزیر خزانے کا نگران تھا:

1. صدر الصدر
2. دیوان اعلیٰ
3. میر بخشئی
4. میر سامان

Options :

485584146025. 1
485584146026. 2
485584146027. 3
485584146028. 4

Question Number : 123 Question Id : 48558436508 Question Type : MCQ Option Shuffling : No Is Question Mandatory : No Calculator : None Response Time : N.A Think Time : N.A Minimum Instruction Time : 0

Correct Marks : 5 Wrong Marks : 1

Question Key Details :

Key	Value
Comprehension	MCQ

Whom did Akbar honour with the title "Zarrin qalam"?

1. Muhammad Husayn
2. Abul Hasan
3. Payag
4. Abdul Hamid Lahori

Options :

485584146029. 1
485584146030. 2
485584146031. 3
485584146032. 4

Question Number : 123 Question Id : 48558436508 Question Type : MCQ Option Shuffling : No Is Question Mandatory : No Calculator : None Response Time : N.A Think Time : N.A Minimum Instruction Time : 0

Correct Marks : 5 Wrong Marks : 1

Question Key Details :

Key	Value
Comprehension	MCQ

اکبر نے کس کو ”زرّین قلم“ کے خطاب سے نوازا:

1. محمد حسین
2. ابوالحسن
3. بیگ
4. عبدالحمید لاہوری

Options :

485584146029. 1
485584146030. 2
485584146031. 3
485584146032. 4

Question Number : 124 Question Id : 48558436509 Question Type : MCQ Option Shuffling : No Is Question Mandatory : No Calculator : None Response Time : N.A Think Time : N.A Minimum Instruction Time : 0

Correct Marks : 5 Wrong Marks : 1

Question Key Details :

Key	Value
Comprehension	MCQ

The Permanent Settlement came into operation in _____.

1. 1864
2. 1757
3. 1793
4. 1800

Options :

485584146033. 1
485584146034. 2
485584146035. 3
485584146036. 4

Question Number : 124 Question Id : 48558436509 Question Type : MCQ Option Shuffling : No Is Question Mandatory : No Calculator : None Response Time : N.A Think Time : N.A Minimum Instruction Time : 0

Correct Marks : 5 Wrong Marks : 1

Question Key Details :

Key	Value
Comprehension	MCQ

1. 1864
2. 1757
3. 1793
4. 1800

Options :

485584146033. 1
485584146034. 2
485584146035. 3
485584146036. 4

Question Number : 125 Question Id : 48558436510 Question Type : MCQ Option Shuffling : No Is Question Mandatory : No Calculator : None Response Time : N.A Think Time : N.A Minimum Instruction Time : 0

Correct Marks : 5 Wrong Marks : 1

Question Key Details :

Key	Value
Comprehension	MCQ

The Manchester Cotton Company was formed in the year _____.

1. 1857
2. 1858
3. 1859
4. 1860

Options :

485584146037. 1
485584146038. 2
485584146039. 3
485584146040. 4

Question Number : 125 Question Id : 48558436510 Question Type : MCQ Option Shuffling : No Is Question Mandatory : No Calculator : None Response Time : N.A Think Time : N.A Minimum Instruction Time : 0

Correct Marks : 5 Wrong Marks : 1

Question Key Details :

Key	Value
Comprehension	MCQ

1. 1857
2. 1858
3. 1859
4. 1860

Options :

485584146037. 1
485584146038. 2
485584146039. 3
485584146040. 4

Question Number : 126 Question Id : 48558436511 Question Type : MCQ Option Shuffling : No Is Question Mandatory : No Calculator : None Response Time : N.A Think Time : N.A Minimum Instruction Time : 0

Correct Marks : 5 Wrong Marks : 1

Question Key Details :

Key	Value
Comprehension	MCQ

Before the age of railway, the town of Mirzapur was a collection centre for cotton from which area?

1. Punjab
2. Tamil Nadu
3. Gujarat
4. Deccan

Options :

485584146041. 1
485584146042. 2
485584146043. 3
485584146044. 4

Question Number : 126 Question Id : 48558436511 Question Type : MCQ Option Shuffling : No Is Question Mandatory : No Calculator : None Response Time : N.A Think Time : N.A Minimum Instruction Time : 0

Correct Marks : 5 Wrong Marks : 1

Question Key Details :

Key	Value
Comprehension	MCQ

ریلوے کے عہد سے قبل مرزا پور شہر کس علاقے سے کیاس اکتھا کرنے کا مرکز تھا:

1. پنجاب
2. تمل ناڈو
3. گجرات
4. دکن

Options :

485584146041. 1
485584146042. 2
485584146043. 3
485584146044. 4

Question Number : 127 Question Id : 48558436512 Question Type : MCQ Option Shuffling : No Is Question Mandatory : No Calculator : None Response Time : N.A Think Time : N.A Minimum Instruction Time : 0

Correct Marks : 5 Wrong Marks : 1

Question Key Details :

Key	Value
Comprehension	MCQ

Satyajit Ray's film 'Jalshaghar' dealt with the subject matter of _____.

1. India's freedom struggle.
2. The decline of the aristocratic zamindari style of living.
3. Revolt of 1857.
4. Swadeshi Movement in Bengal.

Options :

485584146045. 1
485584146046. 2
485584146047. 3
485584146048. 4

Question Number : 127 Question Id : 48558436512 Question Type : MCQ Option Shuffling : No Is Question Mandatory : No Calculator : None Response Time : N.A Think Time : N.A Minimum Instruction Time : 0

Correct Marks : 5 Wrong Marks : 1

Question Key Details :

Key	Value
Comprehension	MCQ

سٹیہ جیت رائے کی فلم ”جل ساگر“ کس موضوع سے متعلق ہے:

1. ہندوستان کی تحریک آزادی
2. زمینداروں کے شاہانہ رہن سہن کا زوال
3. 1857 کا غدر
4. بنگال میں سوڈیشی تحریک

Options :

485584146045. 1
485584146046. 2
485584146047. 3
485584146048. 4

Question Number : 128 Question Id : 48558436513 Question Type : MCQ Option Shuffling : No Is Question Mandatory : No Calculator : None Response Time : N.A Think Time : N.A Minimum Instruction Time : 0

Correct Marks : 5 Wrong Marks : 1

Question Key Details :

Key	Value
Comprehension	MCQ

Who organised the zoo which later on became the Calcutta Alipore Zoo?

1. Francis Buchanan
2. Augustus Cornwallis
3. Charles Cornwallis
4. Maharaja Mehtab Chand

Options :

485584146049. 1
485584146050. 2
485584146051. 3
485584146052. 4

Question Number : 128 Question Id : 48558436513 Question Type : MCQ Option Shuffling : No Is Question Mandatory : No Calculator : None Response Time : N.A Think Time : N.A Minimum Instruction Time : 0

Correct Marks : 5 Wrong Marks : 1

Question Key Details :

Key	Value
Comprehension	MCQ

کس نے چڑیاخانہ (Zoo) قائم کیا۔ جو بعد میں کلکتہ کا علی پور چڑیاخانہ (Zoo) بن گیا۔

1. فرانسس بچانن (Francis Buchanan)
2. اگسٹس کورنوالیز (Augustus Cornwallis)
3. چارلس کورنوالیز (Charles Cornwallis)
4. مہاراجہ مہتاب چند (Maharaja Mehtab Chand)

Options :

485584146049. 1
485584146050. 2
485584146051. 3
485584146052. 4

Question Number : 129 Question Id : 48558436514 Question Type : MCQ Option Shuffling : No Is Question Mandatory : No Calculator : None Response Time : N.A Think Time : N.A Minimum Instruction Time : 0

Correct Marks : 5 Wrong Marks : 1

Question Key Details :

Key	Value
Comprehension	MCQ

Where is 'Borah Bazaar' located?

1. Madras
2. Bombay
3. Lucknow
4. Shimla

Options :

485584146053. 1
485584146054. 2
485584146055. 3
485584146056. 4

Question Number : 129 Question Id : 48558436514 Question Type : MCQ Option Shuffling : No Is Question Mandatory : No Calculator : None Response Time : N.A Think Time : N.A Minimum Instruction Time : 0

Correct Marks : 5 Wrong Marks : 1

Question Key Details :

Key	Value
Comprehension	MCQ

1. مدراس

2. ممبئی

3. لکھنؤ

4. شملہ

Options :

485584146053. 1

485584146054. 2

485584146055. 3

485584146056. 4

Question Number : 130 Question Id : 48558436515 Question Type : MCQ Option Shuffling : No Is Question Mandatory : No Calculator : None Response Time : N.A Think Time : N.A Minimum Instruction Time : 0

Correct Marks : 5 Wrong Marks : 1

Question Key Details :

Key	Value
Comprehension	MCQ

Name the historian who remarked that South Africa was "the making of Mahatma".

1. Lala Lajpat Rai

2. Bal Gangadhar Tilak

3. Chandran Devanesan

4. Abindranath Tagore

Options :

485584146057. 1

485584146058. 2

485584146059. 3

485584146060. 4

Question Number : 130 Question Id : 48558436515 Question Type : MCQ Option Shuffling : No Is Question Mandatory : No Calculator : None Response Time : N.A Think Time : N.A Minimum Instruction Time : 0

Correct Marks : 5 Wrong Marks : 1

Question Key Details :

Key	Value
Comprehension	MCQ

کس تاریخ نویس نے تبصرہ کیا کہ ساؤتھ افریقہ نے ”گاندھی کو بنایا“ (the making of Mahatma)؟

1. (Lala Lajpat Rai) لالہ لاجپت رائے
2. (Bal Gangadhar Tilak) بال گنگادھر تلک
3. (Chandran Devanesan) چندرن دیوانیسن
4. (Abindranath Tagore) آبندر ناتھ ٹیگور

Options :

485584146057. 1
485584146058. 2
485584146059. 3
485584146060. 4

Question Number : 131 Question Id : 48558436516 Question Type : MCQ Option Shuffling : No Is Question Mandatory : No Calculator : None Response Time : N.A Think Time : N.A Minimum Instruction Time : 0

Correct Marks : 5 Wrong Marks : 1

Question Key Details :

Key	Value
Comprehension	MCQ

Who from among the following nationalist leaders belonged to the group of Moderates?

1. Bipin Chandra Pal
2. Bal Gangadhar Tilak
3. Gopal Krishna Gokhale
4. Chandrashekhar Azad

Options :

485584146061. 1
485584146062. 2
485584146063. 3
485584146064. 4

Question Number : 131 Question Id : 48558436516 Question Type : MCQ Option Shuffling : No Is Question Mandatory : No Calculator : None Response Time : N.A Think Time : N.A Minimum Instruction Time : 0

Correct Marks : 5 Wrong Marks : 1

Question Key Details :

Key	Value
Comprehension	MCQ

مندرجہ ذیل میں سے کون سا محب وطن رہنما اعتدال پسند گروہ سے تھا؟

1. بین چندرا پال
2. بال گنگادھر تلک
3. گوپال کرشنا گوکھلے
4. چندر شیکھر آزاد

Options :

485584146061. 1
485584146062. 2
485584146063. 3
485584146064. 4

Question Number : 132 Question Id : 48558436517 Question Type : MCQ Option Shuffling : No Is Question Mandatory : No Calculator : None Response Time : N.A Think Time : N.A Minimum Instruction Time : 0

Correct Marks : 5 Wrong Marks : 1

Question Key Details :

Key	Value
Comprehension	MCQ

Who amongst the following were close associates of Gandhi in the years 1917-1922?

- A. Vallabhbhai Patel
- B. Subhas Chandra Bose
- C. Annie Besant
- D. Govind Ballabh Pant
- E. B.R. Ambedkar

Choose the **correct** answer from the options given below:

1. A, C, E only
2. A, B, E only
3. B, D, C only
4. A, B, D only

Options :

485584146065. 1
485584146066. 2
485584146067. 3
485584146068. 4

Question Number : 132 Question Id : 48558436517 Question Type : MCQ Option Shuffling : No Is Question Mandatory : No Calculator : None Response Time : N.A Think Time : N.A Minimum Instruction Time : 0

Correct Marks : 5 Wrong Marks : 1

Question Key Details :

Key	Value
Comprehension	MCQ

1917 سے 1922 تک کے سالوں میں مندرجہ ذیل میں سے کون گاندھی جی کا سب سے قریبی ساتھی تھا:

- A. ولہ بھائی پٹیل
B. سبھاش چندر بوس
C. اینی بھنٹ
D. گروند بلہ پنت
E. بی آر امبیکر

1. A, C, E only

2. A, B, E only

3. B, D, C only

4. A, B, D only

Options :

485584146065. 1
485584146066. 2
485584146067. 3
485584146068. 4

Question Number : 133 Question Id : 48558436518 Question Type : MCQ Option Shuffling : No Is Question Mandatory : No Calculator : None Response Time : N.A Think Time : N.A Minimum Instruction Time : 0

Correct Marks : 5 Wrong Marks : 1

Question Key Details :

Key	Value
Comprehension	MCQ

Match List I with List II:

LIST I		LIST II	
A.	Dandi March	I.	1917
B.	Khilafat Movement	II.	1942
C.	Quit India Movement	III.	1921
D.	Champaran Movement	IV.	1930

Choose the **correct** answer from the options given below:

1. A-I, B-II, C-III, D-IV
2. A-II, B-IV, C-I, D-III
3. A-IV, B-III, C-II, D-I
4. A-III, B-IV, C-I, D-II

Options :

485584146069. 1
485584146070. 2
485584146071. 3
485584146072. 4

Question Number : 133 Question Id : 48558436518 Question Type : MCQ Option Shuffling : No Is Question Mandatory : No Calculator : None Response Time : N.A Think Time : N.A Minimum Instruction Time : 0

Correct Marks : 5 Wrong Marks : 1

Question Key Details :

Key	Value
Comprehension	MCQ

فہرست I کو فہرست II سے ملائیے۔

فہرست II		فہرست I	
1917	.I	آئنڈی مارچ	.A
1942	.II	خلافت کی تحریک	.B
1921	.III	ہندوستان چھوڑو تحریک	.C
1930	.IV	جمیاریں تحریک	.D

دیے گئے زمروں میں سے درست جواب کا انتخاب کریں۔

1. A-I, B-II, C-III, D-IV
2. A-II, B-IV, C-I, D-III
3. A-IV, B-III, C-II, D-I
4. A-III, B-IV, C-I, D-II

Options :

485584146069. 1
485584146070. 2
485584146071. 3
485584146072. 4

Question Number : 134 Question Id : 48558436519 Question Type : MCQ Option Shuffling : No Is Question Mandatory : No Calculator : None Response Time : N.A Think Time : N.A Minimum Instruction Time : 0

Correct Marks : 5 Wrong Marks : 1

Question Key Details :

Key	Value
Comprehension	MCQ

Chronologically arrange the following movements led by Mahatma Gandhi.

- A. Rowlatt Satyagraha
- B. Kheda Movement
- C. Champaran Satyagraha
- D. Ahmedabad Mill Strike
- E. Dandi March

Choose the **correct** answer from the options given below:

1. A, B, C, D, E
2. B, D, C, A, E
3. C, D, B, A, E
4. C, A, B, D, E

Options :

- 485584146073. 1
- 485584146074. 2
- 485584146075. 3
- 485584146076. 4

Question Number : 134 Question Id : 48558436519 Question Type : MCQ Option Shuffling : No Is Question Mandatory : No Calculator : None Response Time : N.A Think Time : N.A Minimum Instruction Time : 0

Correct Marks : 5 Wrong Marks : 1

Question Key Details :

Key	Value
Comprehension	MCQ

مہاتما گاندھی کی رہبری میں چلائی جانے والی تحریکوں کو تاریخی اعتبار سے ترتیب دیں:

- A. رولٹ سٹیہ گره
- B. کھیڑا مومنت
- C. چمپارن سٹیہ گره
- D. احمدآباد مل اسٹرایک
- E. ڈانڈی مارچ

دیے گئے انتخابات میں سے درست جواب چنیں۔

1. A, B, C, D, E
2. B, D, C, A, E
3. C, D, B, A, E
4. C, A, B, D, E

Options :

- 485584146073. 1
- 485584146074. 2

485584146075. 3

485584146076. 4

Question Number : 135 Question Id : 48558436520 Question Type : MCQ Option Shuffling : No Is Question Mandatory : No Calculator : None Response Time : N.A Think Time : N.A Minimum Instruction Time : 0

Correct Marks : 5 Wrong Marks : 1

Question Key Details :

Key	Value
Comprehension	MCQ

The 'Hindu Mahasabha' was founded in _____.

1. 1917

2. 1915

3. 1916

4. 1919

Options :

485584146077. 1

485584146078. 2

485584146079. 3

485584146080. 4

Question Number : 135 Question Id : 48558436520 Question Type : MCQ Option Shuffling : No Is Question Mandatory : No Calculator : None Response Time : N.A Think Time : N.A Minimum Instruction Time : 0

Correct Marks : 5 Wrong Marks : 1

Question Key Details :

Key	Value
Comprehension	MCQ

ہندو مہاسبھا کا قیام عمل میں آیا:

1. 1917

2. 1915

3. 1916

4. 1919

Options :

485584146077. 1

485584146078. 2

485584146079. 3

485584146080. 4

Question Number : 136 Question Id : 48558436521 Question Type : MCQ Option Shuffling : No Is Question Mandatory : No Calculator : None Response Time : N.A Think Time : N.A Minimum Instruction Time : 0

Correct Marks : 5 Wrong Marks : 1

Question Key Details :

Key	Value
-----	-------

On which date did the Constituent Assembly begin its sessions?

1. 6 December 1946
2. 9 December 1946
3. 15 July 1946
4. 16 July 1946

Options :

485584146081. 1
485584146082. 2
485584146083. 3
485584146084. 4

Question Number : 136 Question Id : 48558436521 Question Type : MCQ Option Shuffling : No Is Question Mandatory : No Calculator : None Response Time : N.A Think Time : N.A Minimum Instruction Time : 0

Correct Marks : 5 Wrong Marks : 1

Question Key Details :

Key	Value
Comprehension	MCQ

آئینی اسمبلی نے کس تاریخ کو سیشن کی شروعات کی؟

1. 6 دسمبر 1946
2. 9 دسمبر 1946
3. 15 جولائی 1946
4. 16 جولائی 1946

Options :

485584146081. 1
485584146082. 2
485584146083. 3
485584146084. 4

Question Number : 137 Question Id : 48558436522 Question Type : MCQ Option Shuffling : No Is Question Mandatory : No Calculator : None Response Time : N.A Think Time : N.A Minimum Instruction Time : 0

Correct Marks : 5 Wrong Marks : 1

Question Key Details :

Key	Value
Comprehension	MCQ

Match List I with List II:

LIST I		LIST II	
A.	Cultural and Educational Rights	I.	Articles 25-28
B.	Right to Equality	II.	Articles 17
C.	Freedom of Religion	III.	Article 14-16
D.	Abolition of Untouchability	IV.	Articles 29,30

Choose the **correct** answer from the options given below:

1. A-II, B-III, C-IV, D-I
2. A-IV, B-III, C-II, D-I
3. A-I, B-II, C-III, D-IV
4. A-IV, B-III, C-I, D-II

Options :

485584146085. 1
485584146086. 2
485584146087. 3
485584146088. 4

Question Number : 137 Question Id : 48558436522 Question Type : MCQ Option Shuffling : No Is Question Mandatory : No Calculator : None Response Time : N.A Think Time : N.A Minimum Instruction Time : 0

Correct Marks : 5 Wrong Marks : 1

Question Key Details :

Key	Value
Comprehension	MCQ

فہرست I کو فہرست II سے ملائیے:

فہرست II		فہرست I	
28-25	ارٹیکل .I	A	ثقافتی اور تعلیمی حقوق
17	ارٹیکل .II	B	برابری کے حقوق
16-14	ارٹیکل .III	C	منہجی آزادی
29,30	ارٹیکل .IV	D	چھوٹ چھات کا خاتمہ

دیے گئے زمروں میں سے درست جواب کا انتخاب کریں۔

1. A-II, B-III, C-IV, D-I
2. A-IV, B-III, C-II, D-I
3. A-I, B-II, C-III, D-IV
4. A-IV, B-III, C-I, D-II

Options :

485584146085. 1
485584146086. 2
485584146087. 3
485584146088. 4

Question Number : 138 Question Id : 48558436523 Question Type : MCQ Option Shuffling : No Is Question Mandatory : No Calculator : None Response Time : N.A Think Time : N.A Minimum Instruction Time : 0

Correct Marks : 5 Wrong Marks : 1

Question Key Details :

Key	Value
Comprehension	MCQ

Who were the two other lawyers serving with B.R. Ambedkar on the Drafting Committee of the Constitution?

- A. K.M. Munshi
- B. B.N Rau
- C. Alladi Krishnaswamy Aiyar
- D. S.N. Mukherjee
- E. Rajendra Prasad

Choose the **correct** answer from the options given below:

- 1. A, B only
- 2. B, C only
- 3. A, C only
- 4. D, E only

Options :

- 485584146089. 1
- 485584146090. 2
- 485584146091. 3
- 485584146092. 4

Question Number : 138 Question Id : 48558436523 Question Type : MCQ Option Shuffling : No Is Question Mandatory : No Calculator : None Response Time : N.A Think Time : N.A Minimum Instruction Time : 0

Correct Marks : 5 Wrong Marks : 1

Question Key Details :

Key	Value
Comprehension	MCQ

بی آر امبیڈکر کے ساتھ کون دو اور وکلاء انہیں کے تیار کرنے والی کمیٹی میں ساتھ تھے؟

- A. کے ایم منشی (K.M. Munshi)
- B. بی این راؤ (K.M. Munshi)
- C. الادی کرشنا سوامی ایئر (Alladi Krishnaswamy Aiyar)
- D. ایس این مکھرجی (S.N. Mukherjee)
- E. راجندر پرساد (Rajendra Prasad)

دیے گئے زمروں میں سے درست جواب کا انتخاب کریں۔

- 1. صرف A اور B
- 2. صرف B اور C
- 3. صرف A اور C
- 4. صرف D اور E

Options :

- 485584146089. 1
- 485584146090. 2
- 485584146091. 3
- 485584146092. 4

Question Number : 139 Question Id : 48558436524 Question Type : MCQ Option Shuffling : No Is Question Mandatory : No Calculator : None Response Time : N.A Think Time : N.A Minimum Instruction Time : 0

Correct Marks : 5 Wrong Marks : 1

Question Key Details :

Key	Value
Comprehension	MCQ

Arrange the following in a chronological order:

- A. Constituent Assembly begins its session.
- B. Muslim League accepts Cabinet Mission's constitutional scheme.
- C. Muslim League decides to join the Interim Government.
- D. Muslim League announces Direct Action Day.
- E. Muslim League demands dissolution of the Constituent Assembly.

Choose the **correct** answer from the options given below:

- 1. B, D, C, A, E
- 2. B, A, D, C, E
- 3. A, B, C, D, E
- 4. D, A, E, B, C

Options :

- 485584146093. 1
- 485584146094. 2
- 485584146095. 3
- 485584146096. 4

Question Number : 139 Question Id : 48558436524 Question Type : MCQ Option Shuffling : No Is Question Mandatory : No Calculator : None Response Time : N.A Think Time : N.A Minimum Instruction Time : 0

Correct Marks : 5 Wrong Marks : 1

Question Key Details :

Key	Value
Comprehension	MCQ

مندرجہ ذیل کو تاریخی اعتبار سے ترتیب دیں۔

- A. آئینی اسمبلی نے سیشن شروع کیا۔
B. مسلم لیگ نے کابینہ مٹانے کی دستوری اسکیم کو قبول کیا۔
C. مسلم لیگ نے عبوری حکومت میں شمولیت کی۔
D. مسلم لیگ نے ڈائریکٹ ایکشن ڈے کا اعلان کیا۔
E. مسلم لیگ نے اسمبلی کو تحلیل کرنے کی مانگ کی۔

دیے گئے انتخابات میں سے درست جواب کا انتخاب کریں۔

1. B, D, C, A, E
2. B, A, D, C, E
3. A, B, C, D, E
4. D, A, E, B, C

Options :

485584146093. 1
485584146094. 2
485584146095. 3
485584146096. 4

Question Number : 140 Question Id : 48558436525 Question Type : MCQ Option Shuffling : No Is Question Mandatory : No Calculator : None Response Time : N.A Think Time : N.A Minimum Instruction Time : 0

Correct Marks : 5 Wrong Marks : 1

Question Key Details :

Key	Value
Comprehension	MCQ

Which of the following statements are **True** for the Constituent Assembly?

- A. It was boycotted by the Muslim League.
- B. It was elected by Universal Franchise.
- C. Its members were chosen by Provincial Legislatures.
- D. Majority of its members belonged to the Socialist Party.
- E. Constituent Assembly was dominated by three parties.

Choose the **correct** answer from the options given below:

1. A, E only
2. B, D only
3. A, C only
4. B, E only

Options :

485584146097. 1
485584146098. 2
485584146099. 3
485584146100. 4

Question Number : 140 Question Id : 48558436525 Question Type : MCQ Option Shuffling : No Is Question Mandatory : No Calculator : None Response Time : N.A Think Time : N.A Minimum Instruction Time : 0

Correct Marks : 5 Wrong Marks : 1

Question Key Details :

Key	Value
Comprehension	MCQ

مندرجہ ذیل میں سے کون سا بیان آئینی اسمبلی کے لئے درست ہے :

- A. اس کو مسلم لیگ کی طرف سے بایکاٹ کیا گیا.
B. اس کو یونیورسل فرنچائز (Universal Franchise) نے منتخب کیا.
C. اس کے ممبران صوبائی مفنہ نے منتخب کئے۔
D. اس کے ممبران کی اکثریت سوشلسٹ پارٹیوں سے تعلق رکھتے تھے۔
E. آئینی اسمبلی پر تین پارٹیاں غالب تھیں۔

دیے گئے زمروں میں سے درست جواب کا انتخاب کریں۔

1. صرف A اور E
2. صرف B اور D
3. صرف A اور C
4. صرف B اور E

Options :

485584146097. 1
485584146098. 2
485584146099. 3
485584146100. 4

Sub-Section Number :

2

Sub-Section Id :

4855842697

Question Shuffling Allowed :

No

Is Section Default? :

null

Question Number : 141 Question Id : 48558436526 Question Type : MCQ Option Shuffling : No Is Question Mandatory : No Calculator : None Response Time : N.A Think Time : N.A Minimum Instruction Time : 0

Correct Marks : 5 Wrong Marks : 1

Question Key Details :

Key	Value
Comprehension	Comp1

Read the passage and answer the questions :

According to Buddhist philosophy, the world is transient (anicca) and constantly changing; it is also soulless (anatta) as there is nothing permanent or eternal in it. Within this transient world, sorrow (dukkha) is intrinsic to human existence. It is by following the path of moderation between severe penance and self indulgence that human beings can rise above these worldly troubles. In the earliest forms of Buddhism whether or not god existed was irrelevant.

Which of the following statement is **NOT True** regarding the Buddhist philosophy?

1. The world is transient and constantly changing.
2. Sorrow is intrinsic to human existence.
3. Humans can rise above sorrow by following the path of severe penance and self-indulgence.
4. The world is soulless as there is nothing permanent or eternal in it.

Options :

485584146101. 1

485584146102. 2

485584146103. 3

485584146104. 4

Question Number : 141 Question Id : 48558436526 Question Type : MCQ Option Shuffling : No Is Question Mandatory : No Calculator : None Response Time : N.A Think Time : N.A Minimum Instruction Time : 0

Correct Marks : 5 Wrong Marks : 1

Question Key Details :

Key	Value
Comprehension	Comp1

بدھی فلسفہ کے مطابق دنیا عارضی اور لگاتار بدلتی رہتی ہے۔ اس کی کوئی روح نہیں ہے اور یہاں کچھ بھی ہمیشہ کے لیے یا ابدی امر نہیں ہے۔ اس عارضی دنیا میں دکھ ہی انسان کے وجود کا ساتھی ہے۔ دنیاوی مشکلات سے نکلنے کا راستہ یہ ہے کہ اپنی خواہشات کی تکمیل اور خود کو سزا دینے کے بیچ کا راستہ نکالنا ہے۔ بدھ ازم کی ابتدائی شکلوں میں خدا کے وجود کا ہونا یا نہ ہونا غیر موزوں تھا۔

بدھی فلسفے کے تعلق سے مندرجہ ذیل میں کون سا بیان درست نہیں ہے:

1. دنیا عارضی اور لگاتار تبدیل ہو رہی ہے۔
2. دکھ ہی انسانی وجود کی اصلیت ہے۔
3. انسان دکھ سے نکلنے کے لئے خواہشات کی تکمیل اور خود کو سزا دینے کے بیچ کا راستہ اختیار کرے۔
4. دنیا کی روح نہیں ہے اور اس میں کچھ بھی ابدی یا امر نہیں ہے۔

Options :

485584146101. 1

485584146102. 2

485584146103. 3

485584146104. 4

Question Number : 142 Question Id : 48558436527 Question Type : MCQ Option Shuffling : No Is Question Mandatory : No Calculator : None Response Time : N.A Think Time : N.A Minimum Instruction Time : 0

Correct Marks : 5 Wrong Marks : 1

Question Key Details :

Key	Value
Comprehension	Comp1

Read the passage and answer the questions :

According to Buddhist philosophy, the world is transient (anicca) and constantly changing; it is also soulless (anatta) as there is nothing permanent or eternal in it. Within this transient world, sorrow (dukkha) is intrinsic to human existence. It is by following the path of moderation between severe penance and self indulgence that human beings can rise above these worldly troubles. In the earliest forms of Buddhism whether or not god existed was irrelevant.

Which of the following idea is **NOT** a part of the teachings of the Buddha?

1. Importance of right conduct and values.
2. Claims of superiority based on birth.
3. Metta (fellow feeling).
4. Karuna (compassion).

Options :

485584146105. 1
485584146106. 2
485584146107. 3
485584146108. 4

Question Number : 142 Question Id : 48558436527 Question Type : MCQ Option Shuffling : No Is Question Mandatory : No Calculator : None Response Time : N.A Think Time : N.A Minimum Instruction Time : 0

Correct Marks : 5 Wrong Marks : 1

Question Key Details :

Key	Value
Comprehension	Comp1

بدھی فلسفہ کے مطابق دنیا عارضی اور لگاتار بدلتی رہتی ہے۔ اس کی کوئی روح نہیں ہے اور یہاں کچھ بھی ہمیشہ کے لیے یا ابدی امر نہیں ہے۔ اس عارضی دنیا میں دکھ ہی انسان کے وجود کا ساتھی ہے۔ دنیاوی مشکلات سے نکلنے کا راستہ یہ ہے کہ اپنی خواہشات کی تکمیل اور خود کو سزا دینے کے بیچ کا راستہ نکالنا ہے۔ بدھ ازم کی ابتدائی شکلوں میں خدا کے وجود کا ہونا یا نہ ہونا غیر موزوں تھا۔

مندرجہ ذیل میں سے کون سا تصور بدھا کی تعلیمات کا حصہ نہیں ہے؟

1. صحیح اخلاقیات کی اہمیت
2. برتری کا دعویٰ جنم کی وجہ سے
3. میٹا (بھائی چارے کا احساس)
4. کرونا (Karuna) (دردمندی)

Options :

485584146105. 1
485584146106. 2
485584146107. 3
485584146108. 4

Question Number : 143 Question Id : 48558436528 Question Type : MCQ Option Shuffling : No Is Question Mandatory : No Calculator : None Response Time : N.A Think Time : N.A Minimum Instruction Time : 0

Correct Marks : 5 Wrong Marks : 1

Question Key Details :

Key	Value
Comprehension	Comp1

Read the passage and answer the questions :

According to Buddhist philosophy, the world is transient (anicca) and constantly changing; it is also soulless (anatta) as there is nothing permanent or eternal in it. Within this transient world, sorrow (dukkha) is intrinsic to human existence. It is by following the path of moderation between severe penance and self indulgence that human beings can rise above these worldly troubles. In the earliest forms of Buddhism whether or not god existed was irrelevant.

In Buddhism, the followers of the older tradition, who followed the old path and respected teachers, described themselves as:

1. Theravadins
2. Mahayanas
3. Taravadins
4. Tantrics

Options :

485584146109. 1
485584146110. 2
485584146111. 3
485584146112. 4

Question Number : 143 Question Id : 48558436528 Question Type : MCQ Option Shuffling : No Is Question Mandatory : No Calculator : None Response Time : N.A Think Time : N.A Minimum Instruction Time : 0

Correct Marks : 5 Wrong Marks : 1

Question Key Details :

Key	Value
Comprehension	Comp1

بدھی فلسفہ کے مطابق دنیا عارضی اور لگاتار بدلتی رہتی ہے۔ اس کی کوئی روح نہیں ہے اور یہاں کچھ بھی ہمیشہ کے لیے یا ابدی امر نہیں ہے۔ اس عارضی دنیا میں دکھ ہی انسان کے وجود کا ساتھی ہے۔ دنیاوی مشکلات سے نکلنے کا راستہ یہ ہے کہ اپنی خواہشات کی تکمیل اور خود کو سزا دینے کے بیچ کا راستہ نکالنا ہے۔ بدھ ازم کی ابتدائی شکلوں میں خدا کے وجود کا ہونا یا نہ ہونا غیر موزوں تھا۔

بدھ ازم میں وہ پیروکار جو روایتی راستے پر چلتے ہوں اور اساتذہ کی عزت کرتے ہوں خود کو کیا کہلاتے ہیں:

1. (Theravadins) تھیراواڈن
2. (Mahayanas) مہایان
3. (Taravadins) تاراواڈین
4. (Tantrics) ٹانٹرک

Options :

485584146109. 1
485584146110. 2
485584146111. 3
485584146112. 4

Question Number : 144 Question Id : 48558436529 Question Type : MCQ Option Shuffling : No Is Question Mandatory : No Calculator : None Response Time : N.A Think Time : N.A Minimum Instruction Time : 0

Correct Marks : 5 Wrong Marks : 1

Question Key Details :

Key	Value
Comprehension	Compl

Read the passage and answer the questions :

According to Buddhist philosophy, the world is transient (anicca) and constantly changing; it is also soulless (anatta) as there is nothing permanent or eternal in it. Within this transient world, sorrow (dukkha) is intrinsic to human existence. It is by following the path of moderation between severe penance and self indulgence that human beings can rise above these worldly troubles. In the earliest forms of Buddhism whether or not god existed was irrelevant.

Where did Gautama Buddha attain 'nibbana'?

1. Lumbini
2. Rajgriha
3. Sarnath
4. Kusinagara

Options :

485584146113. 1
485584146114. 2
485584146115. 3
485584146116. 4

Question Number : 144 Question Id : 48558436529 Question Type : MCQ Option Shuffling : No Is Question Mandatory : No Calculator : None Response Time : N.A Think Time : N.A Minimum Instruction Time : 0

Correct Marks : 5 Wrong Marks : 1

Question Key Details :

Key	Value
-----	-------

بدھی فلسفہ کے مطابق دنیا عارضی اور لگاتار بدلتی رہتی ہے۔ اس کی کوئی روح نہیں ہے اور یہاں کچھ بھی ہمیشہ کے لیے یا ابدی امر نہیں ہے۔ اس عارضی دنیا میں دکھ ہی انسان کے وجود کا ساتھی ہے۔ دنیاوی مشکلات سے نکلنے کا راستہ یہ ہے کہ اپنی خواہشات کی تکمیل اور خود کو سزا دینے کے بیچ کا راستہ نکالنا ہے۔ بدھ ازم کی ابتدائی شکلوں میں خدا کے وجود کا ہونا یا نہ ہونا غیر موزوں تھا۔

گوتم بدھ نے نروانہ کہاں حاصل کیا؟

1. لمبنی (Lumbini)
2. راجگیر (Rajgriha)
3. سارناتھ (Sarnath)
4. کُشی نگر (Kusinagara)

Options :

485584146113. 1
485584146114. 2
485584146115. 3
485584146116. 4

Question Number : 145 Question Id : 48558436530 Question Type : MCQ Option Shuffling : No Is Question Mandatory : No Calculator : None Response Time : N.A Think Time : N.A Minimum Instruction Time : 0

Correct Marks : 5 Wrong Marks : 1

Question Key Details :

Key	Value
Comprehension	Comp1

Read the passage and answer the questions :

According to Buddhist philosophy, the world is transient (anicca) and constantly changing; it is also soulless (anatta) as there is nothing permanent or eternal in it. Within this transient world, sorrow (dukkha) is intrinsic to human existence. It is by following the path of moderation between severe penance and self indulgence that human beings can rise above these worldly troubles. In the earliest forms of Buddhism whether or not god existed was irrelevant.

Which of the following statements are **True** about the teachings of Buddha?

- A. The Buddha regarded the social world as of divine origin.
- B. The Buddha advised kings and gahapatis to be humane and ethical.
- C. The Buddha believed that collective effort was required to transform social relations.
- D. The Buddha emphasised individual agency and righteous action to escape from the cycle of birth.
- E. The Buddha asserted that the extinguishing of ego and desire would end the cycle of suffering.

Choose the **correct** answer from the options given below:

- 1. C, D, E only
- 2. B, C, D only
- 3. A, B, D only
- 4. B, D, E only

Options :

- 485584146117. 1
- 485584146118. 2
- 485584146119. 3
- 485584146120. 4

Question Number : 145 Question Id : 48558436530 Question Type : MCQ Option Shuffling : No Is Question Mandatory : No Calculator : None Response Time : N.A Think Time : N.A Minimum Instruction Time : 0

Correct Marks : 5 Wrong Marks : 1

Question Key Details :

Key	Value
Comprehension	Comp1

بدھی فلسفہ کے مطابق دنیا عارضی اور لگاتار بدلتی رہتی ہے۔ اس کی کوئی روح نہیں ہے اور یہاں کچھ بھی ہمیشہ کے لیے یا ابدی امر نہیں ہے۔ اس عارضی دنیا میں دکھ ہی انسان کے وجود کا ساتھی ہے۔ دنیاوی مشکلات سے نکلنے کا راستہ یہ ہے کہ اپنی خواہشات کی تکمیل اور خود کو سزا دینے کے بیچ کا راستہ نکالنا ہے۔ بدھ ازم کی ابتدائی شکلوں میں خدا کے وجود کا ہونا یا نہ ہونا غیر موزوں تھا۔

مندرجہ ذیل میں بدھ کی تعلیمات کے متعلق کون سا بیان درست ہے:

- A. بدھا نے سماجی دنیا کو ابتدا الہامی ابتدا قرار دیا۔
- B. بدھا نے راجہ اور گہاپتیوں کو کہا کہ اخلاق مند اور ہمدرد رہیں۔
- C. بدھا کا یقین تھا کہ اجتماعی کوشش ہی سماجی تعلقات کو بدل سکتی ہے۔
- D. بدھا نے جنم کی سائیکل سے باہر نکلنے کیلئے انفرادی عمل اچھے کام کرنے پر زور دیا۔
- E. بدھا نے منوایا کہ انا، اور خواہشات سے نکلنے پر ہی مشکلات سے چھٹکارا حاصل کیا جا سکتا ہے۔

دیے گئے انتخابات میں سے درست جواب کریں۔

- 1. C, D, E صرف
- 2. B, C, D صرف
- 3. A, B, D صرف
- 4. B, D, E صرف

Options :

- 485584146117. 1
- 485584146118. 2
- 485584146119. 3
- 485584146120. 4

Sub-Section Number : 3
Sub-Section Id : 4855842698
Question Shuffling Allowed : No
Is Section Default? : null

Question Number : 146 Question Id : 48558436531 Question Type : MCQ Option Shuffling : No Is Question Mandatory : No Calculator : None Response Time : N.A Think Time : N.A Minimum Instruction Time : 0

Correct Marks : 5 Wrong Marks : 1

Question Key Details :

Key	Value
Comprehension	Comp2

Read the passage and answer the questions :

Section I - Regarding Zemindars. It is evident that the British Government in making zemindary settlement have imposed exorbitant *Jumas* (revenue demand) and have disgraced and ruined several Zemindars by putting up their estates for public auction for arrears of rent, in so much, in the institution of a suit by a common Ryot, a maid servant or a slave, the respectable Zemindars are summoned into court, arrested, put in goal and disgraced. In litigation regarding Zemindaries, the immense value of stamps, and other unnecessary expenses of the civil courts,... are all calculated to impoverish the litigants. Besides this, the coffers of the Zemindars are annually taxed with the subscription for schools, hospitals, roads, etc. Such extortions will have no manner of existence in the Badshahi Government; but on the contrary the *Jumas* will be light, the dignity and honour of the Zemindars safe, and every Zemindar will have absolute rule in his own Zemindary...

This excerpt has been taken from:

1. Bijnaur Proclamation of 1857
2. Kanpur Proclamation of 1857
3. Azamgarh Proclamation of 1857
4. Lucknow Proclamation of 1857

Options :

- 485584146121. 1
- 485584146122. 2
- 485584146123. 3
- 485584146124. 4

Question Number : 146 Question Id : 48558436531 Question Type : MCQ Option Shuffling : No Is Question Mandatory : No Calculator : None Response Time : N.A Think Time : N.A Minimum Instruction Time : 0

Correct Marks : 5 Wrong Marks : 1

Question Key Details :

Key	Value
Comprehension	Comp2

عبارت کو پڑھیں اور سوال کا جواب دیں:

سیکشن I - زمینداروں کے متعلق یہ عیاں ہے کہ برطانوی حکومت زمینداری سٹلمنٹ پر نہایت ہی گراں زمین کا ٹیکس (Jumas) لگایا اور بقایا کرایے کی ادائیگی کے لیے کئی زمینداروں کی زمین کی بولیاں لگوائیں جس زمیندار اجڑ گئے اور ذلیل ہونے اس سے بڑھ کر جہاں عام عوام مزدور اور نوکروں کے مقدمے دائر تھے ان عدالتوں میں۔ بہت سارے زمینداروں کو عدالت سے سمن بھجوائے اور گرفتار کر کے ذلیل کیا۔ زمینداری زمین سے متعلق قانونی چارہ جوئی میں سول کورٹ کی قیمتی مہربیں اور دسرے فالٹو اخراجات قانونی چارہ جو کہ برباد کرنے کے لئے وصولے گئے۔ اس کے علاوہ زمینداروں کے سالانہ خزانے پر ٹیکس عاید کئے گئے، اسکول روڈ اور ہسپتال کے لئے۔ اس طرح کا زر کا استحصال بادشاہی نظام حکومت میں بالکل نہ تھا۔ اس کے برخلاف بادشاہی نظام میں زمینداری کا ٹیکس (Jumas) ہلکا ہوگا اور زمینداروں کی عزت و وقار بھی محفوظ رہے گی اور خود کی زمینداری میں مکمل طور پر ان کی حکمرانی رہے گی۔

یہ اقتباس کہاں سے لیا گیا ہے:

1. جنوری کے 1857 کے اعلان سے
2. کانپور کے 1857 کے اعلان سے
3. اعظم گڑھ کے 1857 کے اعلان سے
4. لکھنؤ کے 1857 کے اعلان سے

Options :

485584146121. 1
485584146122. 2
485584146123. 3
485584146124. 4

Question Number : 147 Question Id : 48558436532 Question Type : MCQ Option Shuffling : No Is Question Mandatory : No Calculator : None Response Time : N.A Think Time : N.A Minimum Instruction Time : 0

Correct Marks : 5 Wrong Marks : 1

Question Key Details :

Key	Value
Comprehension	Comp2

Read the passage and answer the questions :

Section I - Regarding Zemindars. It is evident that the British Government in making zemindary settlement have imposed exorbitant *Jumas* (revenue demand) and have disgraced and ruined several Zemindars by putting up their estates for public auction for arrears of rent, in so much, in the institution of a suit by a common Ryot, a maid servant or a slave, the respectable Zemindars are summoned into court, arrested, put in goal and disgraced. In litigation regarding Zemindaries, the immense value of stamps, and other unnecessary expenses of the civil courts,... are all calculated to impoverish the litigants. Besides this, the coffers of the Zemindars are annually taxed with the subscription for schools, hospitals, roads, etc. Such extortions will have no manner of existence in the Badshahi Government; but on the contrary the *Jumas* will be light, the dignity and honour of the Zemindars safe, and every Zemindar will have absolute rule in his own Zemindary...

"Section I" of the Proclamation addresses to which class?

1. Service gentry class
2. Land holding class
3. Merchant-commercial class
4. Artisans and peasants

Options :

485584146125. 1
485584146126. 2
485584146127. 3
485584146128. 4

Question Number : 147 Question Id : 48558436532 Question Type : MCQ Option Shuffling : No Is Question Mandatory : No Calculator : None Response Time : N.A Think Time : N.A Minimum Instruction Time : 0

Correct Marks : 5 Wrong Marks : 1

Question Key Details :

Key	Value
Comprehension	Comp2

عبارت کو پڑھیں اور سوال کا جواب دیں:

سیکشن I - زمینداروں کے متعلق یہ عیاں ہے کہ برطانوی حکومت زمینداری سٹلمنٹ پر نہایت ہی گراں زمین کا ٹیکس (Jumas) لگایا اور بقیہ کرایے کی ادائیگی کے لیے کئی زمینداروں کی زمین کی بولیاں لگوائیں جس زمیندار اجڑ گئے اور ذلیل ہونے اس سے بڑھ کر جہاں عام عوام مزدور اور نوکروں کے مقدمے دائر تھے ان عدالتوں میں بہت سارے زمینداروں کو عدالت سے سمن بھجوائے اور گرفتار کر کے ذلیل کیا۔ زمینداری زمین سے متعلق قانونی چارہ جوئی میں سول کورٹ کی قیمتی مہربیں اور دسرے فالتو اخراجات قانونی چارہ جو کہ برباد کرنے کے لئے وصول گئے۔ اس کے علاوہ زمینداروں کے سالانہ خزانے پر ٹیکس عاید کئے گئے، اسکول روڈ اور ہسپتال کے لئے۔ اس طرح کا زر کا استحصال بادشاہی نظام حکومت میں بالکل نہ تھا۔ اس کے برخلاف بادشاہی نظام میں زمینداری کا ٹیکس (Jumas) ہلکا ہوگا اور زمینداروں کی عزت و وقار بھی محفوظ رہے گی اور خود کی زمینداری میں مکمل طور پر ان کی حکمرانی رہے گی۔

سیکشن I کا اعلان کس طبقہ سے متعلق ہے:

1. صفائی کرمچاریوں کا طبقہ
2. زمین رکھنے والا طبقہ
3. کاروبار کرنے والا طبقہ
4. کام کرنے والے اور کسان کا طبقہ

Options :

485584146125. 1
485584146126. 2
485584146127. 3
485584146128. 4

Question Number : 148 Question Id : 48558436533 Question Type : MCQ Option Shuffling : No Is Question Mandatory : No Calculator : None Response Time : N.A Think Time : N.A Minimum Instruction Time : 0

Correct Marks : 5 Wrong Marks : 1

Question Key Details :

Key	Value
Comprehension	Comp2

Read the passage and answer the questions :

Section I - Regarding Zemindars. It is evident that the British Government in making zemindary settlement have imposed exorbitant *Jumas* (revenue demand) and have disgraced and ruined several Zemindars by putting up their estates for public auction for arrears of rent, in so much, in the institution of a suit by a common Ryot, a maid servant or a slave, the respectable Zemindars are summoned into court, arrested, put in goal and disgraced. In litigation regarding Zemindaries, the immense value of stamps, and other unnecessary expenses of the civil courts,... are all calculated to impoverish the litigants. Besides this, the coffers of the Zemindars are annually taxed with the subscription for schools, hospitals, roads, etc. Such extortions will have no manner of existence in the Badshahi Government; but on the contrary the *Jumas* will be light, the dignity and honour of the Zemindars safe, and every Zemindar will have absolute rule in his own Zemindary...

Which of the difficulties and miseries of the zamindars have **NOT** been addressed in the Proclamation?

1. Absolute maximising of land tax.
2. Loss of social prestige.
3. Financial burden of the litigation.
4. Backwardness in communication and transportation.

Options :

485584146129. 1
485584146130. 2
485584146131. 3
485584146132. 4

Question Number : 148 Question Id : 48558436533 Question Type : MCQ Option Shuffling : No Is Question Mandatory : No Calculator : None Response Time : N.A Think Time : N.A Minimum Instruction Time : 0

Correct Marks : 5 Wrong Marks : 1

Question Key Details :

Key	Value
Comprehension	Comp2

عبارت کو پڑھیں اور سوال کا جواب دیں:

سیکشن I - زمینداروں کے متعلق یہ عیاں ہے کہ برطانوی حکومت زمینداری سٹلمنٹ پر نہایت ہی گراں زمین کا ٹیکس (Jumas) لگایا اور بقایا کرایے کی ادائیگی کے لیے کئی زمینداروں کی زمین کی بولیاں لگوائیں جس زمیندار اجڑ گئے اور ذلیل ہونے اس سے بڑھ کر جہاں عام عوام مزدور اور نوکروں کے مقدمے دائر تھے ان عدالتوں میں۔ بہت سارے زمینداروں کو عدالت سے سمن بھجوائے اور گرفتار کر کے ذلیل کیا۔ زمینداری زمین سے متعلق قانونی چارہ جوئی میں سول کورٹ کی قیمتی مہربیں اور دسرے فالٹو اخراجات قانونی چارہ جو کہ برباد کرنے کے لئے وصولے گئے۔ اس کے علاوہ زمینداروں کے سالانہ خزانے پر ٹیکس عاید کئے گئے، اسکول روڈ اور ہسپتال کے لئے۔ اس طرح کا زر کا استحصال بادشاہی نظام حکومت میں بالکل نہ تھا۔ اس کے برخلاف بادشاہی نظام میں زمینداری کا ٹیکس (Jumas) ہلکا ہوگا اور زمینداروں کی عزت وقار بھی محفوظ رہے گی اور خود کی زمینداری میں مکمل طور پر ان کی حکمرانی رہے گی۔

مندرجہ ذیل میں سے زمینداروں کو پیش کون سی مشکلات اور پریشانیاں اشتہار میں بیان نہیں کی گئی ہیں:

1. زمین کے ٹیکس کا مکمل اضافہ
2. سماجی حیثیت میں کمی
3. مقدمات کے اخراجات کا بوجھ
4. مراسلات اور آمد و رفت میں پچھڑاؤ

Options :

485584146129. 1
485584146130. 2
485584146131. 3
485584146132. 4

Question Number : 149 Question Id : 48558436534 Question Type : MCQ Option Shuffling : No Is Question Mandatory : No Calculator : None Response Time : N.A Think Time : N.A Minimum Instruction Time : 0

Correct Marks : 5 Wrong Marks : 1

Question Key Details :

Key	Value
Comprehension	Comp2

Read the passage and answer the questions :

Section I - Regarding Zemindars. It is evident that the British Government in making zemindary settlement have imposed exorbitant *Jumas* (revenue demand) and have disgraced and ruined several Zemindars by putting up their estates for public auction for arrears of rent, in so much, in the institution of a suit by a common Ryot, a maid servant or a slave, the respectable Zemindars are summoned into court, arrested, put in goal and disgraced. In litigation regarding Zemindaries, the immense value of stamps, and other unnecessary expenses of the civil courts,... are all calculated to impoverish the litigants. Besides this, the coffers of the Zemindars are annually taxed with the subscription for schools, hospitals, roads, etc. Such extortions will have no manner of existence in the Badshahi Government; but on the contrary the *Jumas* will be light, the dignity and honour of the Zemindars safe, and every Zemindar will have absolute rule in his own Zemindary...

The alternative rule of 'Badshahi Government' proposed by the rebels in this proclamation refers to _____.

1. The rule of the king of England.
2. The royal nature of the company state.
3. The rule of India's traditional aristocratic class, such as of Bahadur Shah Zafar.
4. The rule established by the rebels based on the ordinary people of India.

Options :

485584146133. 1
485584146134. 2
485584146135. 3
485584146136. 4

Question Number : 149 Question Id : 48558436534 Question Type : MCQ Option Shuffling : No Is Question Mandatory : No Calculator : None Response Time : N.A Think Time : N.A Minimum Instruction Time : 0

Correct Marks : 5 Wrong Marks : 1

Question Key Details :

Key	Value
Comprehension	Comp2

عبارت کو پڑھیں اور سوال کا جواب دیں:

سیکشن I - زمینداروں کے متعلق یہ عیاں ہے کہ برطانوی حکومت زمینداری سٹلمنٹ پر نہایت ہی گراں زمین کا ٹیکس (Jumas) لگایا اور بقایا کرایے کی ادائیگی کے لیے کئی زمینداروں کی زمین کی بولیاں لگوائیں جس زمیندار اجڑ گئے اور ذلیل ہونے اس سے بڑھ کر جہاں عام عوام مزدور اور نوکروں کے مقدمے دائر تھے ان عدالتوں میں۔ بہت سارے زمینداروں کو عدالت سے سمن بھجوائے اور گرفتار کر کے ذلیل کیا۔ زمینداری زمین سے متعلق قانونی چارہ جوئی میں سول کورٹ کی قیمتی مہربیں اور دسرے فالتو اخراجات قانونی چارہ جو کہ برباد کرنے کے لئے وصولے گئے۔ اس کے علاوہ زمینداروں کے سالانہ خزانے پر ٹیکس عاید کئے گئے، اسکول روڈ اور ہسپتال کے لئے۔ اس طرح کا زر کا استحصال بادشاہی نظام حکومت میں بالکل نہ تھا۔ اس کے برخلاف بادشاہی نظام میں زمینداری کا ٹیکس (Jumas) ہلکا ہوگا اور زمینداروں کی عزت و وقار بھی محفوظ رہے گی اور خود کی زمینداری میں مکمل طور پر ان کی حکمرانی رہے گی۔

اس منشور میں باغیوں کے ذریعہ پیش کردہ بادشاہی گورنمنٹ کا متبادل بیان کرتا ہے :

1. انگلستان کے راجا کی حکومت
2. کمپنی اسٹیٹ کا شاہی مزاج
3. ہندوستان کے روایتی اشرافیہ طبقے کی حکومت جیسا کہ بہادر شاہ ظفر
4. باغیوں کی قائم کردہ عام ہندوستانی لوگوں کی حکمرانی

Options :

485584146133. 1
485584146134. 2
485584146135. 3
485584146136. 4

Question Number : 150 Question Id : 48558436535 Question Type : MCQ Option Shuffling : No Is Question Mandatory : No Calculator : None Response Time : N.A Think Time : N.A Minimum Instruction Time : 0

Correct Marks : 5 Wrong Marks : 1

Question Key Details :

Key	Value
Comprehension	Comp2

Read the passage and answer the questions :

Section I - Regarding Zemindars. It is evident that the British Government in making zemindary settlement have imposed exorbitant *Jumas* (revenue demand) and have disgraced and ruined several Zemindars by putting up their estates for public auction for arrears of rent, in so much, in the institution of a suit by a common Ryot, a maid servant or a slave, the respectable Zemindars are summoned into court, arrested, put in goal and disgraced. In litigation regarding Zemindaries, the immense value of stamps, and other unnecessary expenses of the civil courts,... are all calculated to impoverish the litigants. Besides this, the coffers of the Zemindars are annually taxed with the subscription for schools, hospitals, roads, etc. Such extortions will have no manner of existence in the Badshahi Government; but on the contrary the *Jumas* will be light, the dignity and honour of the Zemindars safe, and every Zemindar will have absolute rule in his own Zemindary...

Loss of zamindari estates and public auction of the same, as mentioned in the Proclamation, was caused by_____.

1. War of succession with the British.
2. Military expedition of the company.
3. New land reserve settlements of the company.
4. Lack of competence and co-ordination on part of the zamindars.

Options :

485584146137. 1
485584146138. 2
485584146139. 3
485584146140. 4

Question Number : 150 Question Id : 48558436535 Question Type : MCQ Option Shuffling : No Is Question Mandatory : No Calculator : None Response Time : N.A Think Time : N.A Minimum Instruction Time : 0

Correct Marks : 5 Wrong Marks : 1

Question Key Details :

Key	Value
Comprehension	Comp2

عبارت کو پڑھیں اور سوال کا جواب دیں:

سیکشن I - زمینداروں کے متعلق یہ عیاں ہے کہ برطانوی حکومت زمینداری سٹلمنٹ پر نہایت ہی گراں زمین کا ٹیکس (Jumas) لگایا اور بقایا کرایے کی ادائیگی کے لیے کئی زمینداروں کی زمین کی بولیاں لگوائیں جس زمیندار اجڑ گئے اور دلیل ہونے اس سے بڑھ کر جہاں عام عوام مزدور اور نوکروں کے مقدمے دائر تھے ان عدالتوں میں۔ بہت سارے زمینداروں کو عدالت سے سمن بھجوائے اور گرفتار کر کے دلیل کیا۔ زمینداری زمین سے متعلق قانونی چارہ جوئی میں سول کورٹ کی قیمتی مہربیں اور دسرے فالتو اخراجات قانونی چارہ جو کہ برباد کرنے کے لئے وصولے گئے۔ اس کے علاوہ زمینداروں کے سالانہ خزانے پر ٹیکس عاید کئے گئے، اسکول روڈ اور ہسپتال کے لئے۔ اس طرح کا زر کا استحصال بادشاہی نظام حکومت میں بالکل نہ تھا۔ اس کے برخلاف بادشاہی نظام میں زمینداری کا ٹیکس (Jumas) ہلکا ہوگا اور زمینداروں کی عزت و فار بھی محفوظ رہے گی اور خود کی زمینداری میں مکمل طور پر ان کی حکمرانی رہے گی۔

زمینداری علاقے کا نقصان اور عوام میں اس کی بولی لگوانا جو اعلان میں بتایا گیا ہے کی کیا وجوہات نہیں:

1. برطانویوں کے ساتھ وراثت کی جنگ
2. کمپنی کی افواج کی گشت
3. کمپنی کی طرف سے زمینوں کی نئی آباد کاری
4. زمینداروں میں مہارت اور ٹال میل میں کمی

Options :

485584146137. 1
485584146138. 2
485584146139. 3
485584146140. 4

Home Science

Group Number :	5
Group Id :	485584825
Group Maximum Duration :	45
Group Minimum Duration :	45
Show Attended Group? :	No
Edit Attended Group? :	No
Break time :	0
Group Marks :	200
Is this Group for Examiner? :	No
Examiner permission :	Cant View
Show Progress Bar? :	No

Home Science

Section Id :	485584949
Section Number :	1
Section type :	Online
Mandatory or Optional :	Mandatory
Number of Questions :	50
Number of Questions to be attempted :	40
Section Marks :	200
Enable Mark as Answered Mark for Review and Clear Response :	Yes
Maximum Instruction Time :	0
Sub-Section Number :	1
Sub-Section Id :	4855842699
Question Shuffling Allowed :	Yes
Is Section Default? :	null

Question Number : 151 Question Id : 48558436536 Question Type : MCQ Option Shuffling : No Is Question Mandatory :
No Calculator : None Response Time : N.A Think Time : N.A Minimum Instruction Time : 0
Correct Marks : 5 Wrong Marks : 1

Question Key Details :

Key	Value
-----	-------

Comprehension	MCQ
---------------	-----

The Persons with Disabilities Act was passed in which year?

1. 1995
2. 1996
3. 2000
4. 1998

Options :

485584146141. 1
485584146142. 2
485584146143. 3
485584146144. 4

Question Number : 151 Question Id : 48558436536 Question Type : MCQ Option Shuffling : No Is Question Mandatory : No Calculator : None Response Time : N.A Think Time : N.A Minimum Instruction Time : 0

Correct Marks : 5 Wrong Marks : 1

Question Key Details :

Key	Value
Comprehension	MCQ

ایکٹ برائے معزورین کس سال میں منظور ہوا؟

1. 1995
2. 1996
3. 2000
4. 1998

Options :

485584146141. 1
485584146142. 2
485584146143. 3
485584146144. 4

Question Number : 152 Question Id : 48558436537 Question Type : MCQ Option Shuffling : No Is Question Mandatory : No Calculator : None Response Time : N.A Think Time : N.A Minimum Instruction Time : 0

Correct Marks : 5 Wrong Marks : 1

Question Key Details :

Key	Value
Comprehension	MCQ

The causes of disability in children can be grouped into three categories which are:

- A. Factors that impinge on the child during development
- B. Factors due to school education
- C. Factors that affect before birth, both genetic and non-genetic
- D. Factors that affect the child at birth or soon after birth

Choose the correct answer from the options given below:

- 1. A, C and D only
- 2. A, B and C only
- 3. B, C and D only
- 4. A, B and D only

Options :

- 485584146145. 1
- 485584146146. 2
- 485584146147. 3
- 485584146148. 4

Question Number : 152 Question Id : 48558436537 Question Type : MCQ Option Shuffling : No Is Question Mandatory : No Calculator : None Response Time : N.A Think Time : N.A Minimum Instruction Time : 0

Correct Marks : 5 Wrong Marks : 1

Question Key Details :

Key	Value
Comprehension	MCQ

بچوں میں معذوری کی وجوہات کو تین قسموں میں تقسیم/ بانٹا جا سکتا ہے وہ ہیں:

- A. نشوونما کے دوران کے وجوہات
- B. اسکول کی تعلیم کے اسباب
- C. پیدا ہونے کے پہلے کے تناسلی اور غیر تناسلی وجوہات
- D. پیدا ہونے کے فوراً بعد کے وجوہات

- 1. A, C and D only
- 2. A, B and C only
- 3. B, C and D only
- 4. A, B and D only

Options :

- 485584146145. 1
- 485584146146. 2
- 485584146147. 3
- 485584146148. 4

Question Number : 153 Question Id : 48558436538 Question Type : MCQ Option Shuffling : No Is Question Mandatory : No Calculator : None Response Time : N.A Think Time : N.A Minimum Instruction Time : 0

Correct Marks : 5 Wrong Marks : 1

Question Key Details :

Key	Value
Comprehension	MCQ

_____ is the basic unit of society which looks after its members.

1. School
2. Family
3. Neighbour
4. Friends

Options :

485584146149. 1
485584146150. 2
485584146151. 3
485584146152. 4

Question Number : 153 Question Id : 48558436538 Question Type : MCQ Option Shuffling : No Is Question Mandatory : No Calculator : None Response Time : N.A Think Time : N.A Minimum Instruction Time : 0

Correct Marks : 5 Wrong Marks : 1

Question Key Details :

Key	Value
Comprehension	MCQ

مندرجہ ذیل میں سے بنیادی ڈھانچہ جو سماج کے رکن کا خیال رکھتا ہے:-

1. اسکول
2. خاندان
3. پڑوسی
4. دوست

Options :

485584146149. 1
485584146150. 2
485584146151. 3
485584146152. 4

Question Number : 154 Question Id : 48558436539 Question Type : MCQ Option Shuffling : No Is Question Mandatory : No Calculator : None Response Time : N.A Think Time : N.A Minimum Instruction Time : 0

Correct Marks : 5 Wrong Marks : 1

Question Key Details :

Key	Value
Comprehension	MCQ

In India, a senior citizen is a person belonging to which of the following age group?

1. 65 years and above
2. 60 years and above
3. 70 years and above
4. 80 years and above

Options :

485584146153. 1
485584146154. 2
485584146155. 3
485584146156. 4

Question Number : 154 Question Id : 48558436539 Question Type : MCQ Option Shuffling : No Is Question Mandatory : No Calculator : None Response Time : N.A Think Time : N.A Minimum Instruction Time : 0

Correct Marks : 5 Wrong Marks : 1

Question Key Details :

Key	Value
Comprehension	MCQ

ہندوستان میں بزرگ شہری مندرجہ ذیل عمر کو شامل ہے:

1. 65 سال اور اس کے اوپر
2. 60 سال اور اس کے اوپر
3. 70 سال اور اس کے اوپر
4. 80 سال اور اس کے اوپر

Options :

485584146153. 1
485584146154. 2
485584146155. 3
485584146156. 4

Question Number : 155 Question Id : 48558436540 Question Type : MCQ Option Shuffling : No Is Question Mandatory : No Calculator : None Response Time : N.A Think Time : N.A Minimum Instruction Time : 0

Correct Marks : 5 Wrong Marks : 1

Question Key Details :

Key	Value
Comprehension	MCQ

In which year, Ministry of Youth Affairs and Sports adopted the National Youth Policy?

1. 2005
2. 2003
3. 2004
4. 2010

Options :

485584146157. 1
485584146158. 2
485584146159. 3
485584146160. 4

Question Number : 155 Question Id : 48558436540 Question Type : MCQ Option Shuffling : No Is Question Mandatory : No Calculator : None Response Time : N.A Think Time : N.A Minimum Instruction Time : 0

Correct Marks : 5 Wrong Marks : 1

Question Key Details :

Key	Value
Comprehension	MCQ

کس سال میں وزارت برائے نوجوان معاملات اور کھیل (Ministry of Youth Affair and Sports) نے قومی نوجوان پالیسی کو چنا؟

1. 2005
2. 2003
3. 2004
4. 2010

Options :

485584146157. 1
485584146158. 2
485584146159. 3
485584146160. 4

Question Number : 156 Question Id : 48558436541 Question Type : MCQ Option Shuffling : No Is Question Mandatory : No Calculator : None Response Time : N.A Think Time : N.A Minimum Instruction Time : 0

Correct Marks : 5 Wrong Marks : 1

Question Key Details :

Key	Value
Comprehension	MCQ

Name the psychologist who outlined the great need that children have for a concerned, caring and knowledgeable adult.

1. Piaget
2. Freud
3. Vygotsky
4. Bruner

Options :

485584146161. 1
485584146162. 2
485584146163. 3
485584146164. 4

Question Number : 156 Question Id : 48558436541 Question Type : MCQ Option Shuffling : No Is Question Mandatory : No Calculator : None Response Time : N.A Think Time : N.A Minimum Instruction Time : 0

Correct Marks : 5 Wrong Marks : 1

Question Key Details :

Key	Value
Comprehension	MCQ

کس ماہر نفسیات نے بچوں کے لیے عاقل بالغ شخصیات کی اہم ضرورت کی طرف اشارہ کیا ہے؟

1. پیاچے (Piaget)
2. فرائڈ (Freud)
3. وائگوتسکی (Vygotsky)
4. برونر (Bruner)

Options :

485584146161. 1
485584146162. 2
485584146163. 3
485584146164. 4

Question Number : 157 Question Id : 48558436542 Question Type : MCQ Option Shuffling : No Is Question Mandatory : No Calculator : None Response Time : N.A Think Time : N.A Minimum Instruction Time : 0

Correct Marks : 5 Wrong Marks : 1

Question Key Details :

Key	Value
Comprehension	MCQ

Identify the given standardisation mark.



1. ISI
2. FPO
3. AGMARK
4. Hallmark

Options :

- 485584146165. 1
- 485584146166. 2
- 485584146167. 3
- 485584146168. 4

Question Number : 157 Question Id : 48558436542 Question Type : MCQ Option Shuffling : No Is Question Mandatory : No Calculator : None Response Time : N.A Think Time : N.A Minimum Instruction Time : 0

Correct Marks : 5 Wrong Marks : 1

Question Key Details :

Key	Value
Comprehension	MCQ

دیے گئے خاص نشان کی شناخت کریں:



1. ISI
2. FPO
3. AGMARK
4. FSSAI

Options :

485584146165. 1
485584146166. 2
485584146167. 3
485584146168. 4

Question Number : 158 Question Id : 48558436543 Question Type : MCQ Option Shuffling : No Is Question Mandatory : No Calculator : None Response Time : N.A Think Time : N.A Minimum Instruction Time : 0

Correct Marks : 5 Wrong Marks : 1

Question Key Details :

Key	Value
Comprehension	MCQ

A process through which buyer makes decisions about purchasing is known as _____.

1. Consumer behaviour
2. Consumer right
3. Consumer footfall
4. Consumer expectation

Options :

485584146169. 1
485584146170. 2
485584146171. 3
485584146172. 4

Question Number : 158 Question Id : 48558436543 Question Type : MCQ Option Shuffling : No Is Question Mandatory : No Calculator : None Response Time : N.A Think Time : N.A Minimum Instruction Time : 0

Correct Marks : 5 Wrong Marks : 1

Question Key Details :

Key	Value
Comprehension	MCQ

وہ ترکیب عمل جس کے ذریعے خریدار خریدنے کا فیصلہ کرتا ہے، اسے _____ کہتے ہیں۔

1. خریدار کا رویہ
2. خریدار کا حق
3. خریدار کا کم ہوجانا
4. خریدار کی امید

Options :

485584146169. 1
485584146170. 2
485584146171. 3
485584146172. 4

Question Number : 159 Question Id : 48558436544 Question Type : MCQ Option Shuffling : No Is Question Mandatory : No Calculator : None Response Time : N.A Think Time : N.A Minimum Instruction Time : 0

Correct Marks : 5 Wrong Marks : 1

Question Key Details :

Key	Value
Comprehension	MCQ

Which of the following is a tool to empower and equip consumers to protect themselves from adverse market forces ?

1. Consumer education
2. Consumer problems
3. Consumer behaviour
4. Consumer responsibility

Options :

485584146173. 1
485584146174. 2
485584146175. 3
485584146176. 4

Question Number : 159 Question Id : 48558436544 Question Type : MCQ Option Shuffling : No Is Question Mandatory : No Calculator : None Response Time : N.A Think Time : N.A Minimum Instruction Time : 0

Correct Marks : 5 Wrong Marks : 1

Question Key Details :

Key	Value
Comprehension	MCQ

مندرجہ ذیل میں سے کون سا ذریعہ خریدار کو بازار کے نقصان سے بچنے کی طاقت عطا کرتا ہے اور اس سے بچنے کے کام میں آتا ہے؟

1. خریدار کے لئے تعلیم
2. خریدار کے مسائل
3. خریدار کے رویے
4. خریدار کی ذمہ داریاں

Options :

485584146173. 1
485584146174. 2
485584146175. 3
485584146176. 4

Question Number : 160 Question Id : 48558436545 Question Type : MCQ Option Shuffling : No Is Question Mandatory : No Calculator : None Response Time : N.A Think Time : N.A Minimum Instruction Time : 0

Correct Marks : 5 Wrong Marks : 1

Question Key Details :

Key	Value
Comprehension	MCQ

What is the other name for short lived fashion?

1. Fad
2. Classic
3. Style
4. Design

Options :

485584146177. 1
485584146178. 2
485584146179. 3
485584146180. 4

Question Number : 160 Question Id : 48558436545 Question Type : MCQ Option Shuffling : No Is Question Mandatory : No Calculator : None Response Time : N.A Think Time : N.A Minimum Instruction Time : 0

Correct Marks : 5 Wrong Marks : 1

Question Key Details :

Key	Value
Comprehension	MCQ

وہ فیشن جو کم وقت کے لئے ہوتا ہے اس کا دوسرا نام کیا ہے؟

1. فیشن
2. کلاسک
3. اسٹائل
4. فیشن

Options :

485584146177. 1
485584146178. 2
485584146179. 3
485584146180. 4

Question Number : 161 Question Id : 48558436546 Question Type : MCQ Option Shuffling : No Is Question Mandatory : No Calculator : None Response Time : N.A Think Time : N.A Minimum Instruction Time : 0

Correct Marks : 5 Wrong Marks : 1

Question Key Details :

Key	Value
Comprehension	MCQ

You have to purchase a dress for your sister who is tall and slim. Inclusion of which of the following will be appropriate for her?

1. Vertical lines
2. Horizontal lines
3. Dark colours
4. High waist bodice

Options :

485584146181. 1
485584146182. 2
485584146183. 3
485584146184. 4

Question Number : 161 Question Id : 48558436546 Question Type : MCQ Option Shuffling : No Is Question Mandatory : No Calculator : None Response Time : N.A Think Time : N.A Minimum Instruction Time : 0

Correct Marks : 5 Wrong Marks : 1

Question Key Details :

Key	Value
Comprehension	MCQ

آپ اپنی بہن کے لیے کپڑا پسند کر رہے/رہی ہیں جو لمبی اور پتلی ہے۔ مندرجہ ذیل میں سے اس کے لیے کیا مناسب ہے؟

1. (Vertical lines) عمودی لکیر
2. (Horizontal lines) افقی لکیر
3. (Dark colours) گہرا رنگ
4. (High waist bodice) کمر تک کے کپڑے

Options :

485584146181. 1
485584146182. 2
485584146183. 3
485584146184. 4

Question Number : 162 Question Id : 48558436547 Question Type : MCQ Option Shuffling : No Is Question Mandatory : No Calculator : None Response Time : N.A Think Time : N.A Minimum Instruction Time : 0

Correct Marks : 5 Wrong Marks : 1

Question Key Details :

Key	Value
Comprehension	MCQ

_____ ability requires a thorough knowledge of past future trends and current future trends.

1. Analytical
2. Forecasting
3. Communication
4. Technical

Options :

485584146185. 1
485584146186. 2
485584146187. 3
485584146188. 4

Question Number : 162 Question Id : 48558436547 Question Type : MCQ Option Shuffling : No Is Question Mandatory : No Calculator : None Response Time : N.A Think Time : N.A Minimum Instruction Time : 0

Correct Marks : 5 Wrong Marks : 1

Question Key Details :

Key	Value
Comprehension	MCQ

_____ قوت کا مطلب ہے مستقبل میں چلنے والے فیشن کے بارے میں بتانا۔

1. تجزیاتی (Analytical)
2. قیاسی (Forecasting)
3. ترسیلی (Communication)
4. تکنیکی (Technical)

Options :

485584146185. 1
485584146186. 2
485584146187. 3
485584146188. 4

Question Number : 163 Question Id : 48558436548 Question Type : MCQ Option Shuffling : No Is Question Mandatory : No Calculator : None Response Time : N.A Think Time : N.A Minimum Instruction Time : 0

Correct Marks : 5 Wrong Marks : 1

Question Key Details :

Key	Value
Comprehension	MCQ

_____ is the important phase in wash cycle. If it is not done properly, clothes may look grey, dull with harsh texture.

1. Water extraction
2. Rinsing
3. Drying
4. Pressing

Options :

485584146189. 1
485584146190. 2
485584146191. 3
485584146192. 4

Question Number : 163 Question Id : 48558436548 Question Type : MCQ Option Shuffling : No Is Question Mandatory : No Calculator : None Response Time : N.A Think Time : N.A Minimum Instruction Time : 0

Correct Marks : 5 Wrong Marks : 1

Question Key Details :

Key	Value
Comprehension	MCQ

_____ کپڑے دھونے کے سلسلہ کا اہم مرحلہ ہے۔ اگر یہ سہی سے نہ کیا جائے تو کپڑے پرانے اور ہلکے رنگ کے ہوسکتے ہیں۔

1. پانی کا نکلنا
2. کپنگالنا
3. سکھانا
4. آئرن کرنا

Options :

485584146189. 1
485584146190. 2
485584146191. 3
485584146192. 4

Question Number : 164 Question Id : 48558436549 Question Type : MCQ Option Shuffling : No Is Question Mandatory : No Calculator : None Response Time : N.A Think Time : N.A Minimum Instruction Time : 0

Correct Marks : 5 Wrong Marks : 1

Question Key Details :

Key	Value
Comprehension	MCQ

Which of the following colour scheme refers to a colour combination using two or three hues that lie side by side on the colour wheel?

1. Achromatic harmony
2. Accented neutral
3. Analogous harmony
4. Complementary harmony

Options :

485584146193. 1
485584146194. 2
485584146195. 3
485584146196. 4

Question Number : 164 Question Id : 48558436549 Question Type : MCQ Option Shuffling : No Is Question Mandatory : No Calculator : None Response Time : N.A Think Time : N.A Minimum Instruction Time : 0

Correct Marks : 5 Wrong Marks : 1

Question Key Details :

Key	Value
Comprehension	MCQ

_____ بتاتا ہے دو یا تین رنگوں کو ملا کر بنائے ہوئے رنگوں کے میل کو جو رنگوں کے بہیے پراخل بغل رہتا ہے۔

1. (Achromatic) بے رنگ
2. (Accented neutral) اکسنٹڈ نیوٹرل
3. (Analogous harmony) ملتے جلتے رنگوں کا میل
4. (Complementary harmony) کامل اور سالم میل

Options :

485584146193. 1
485584146194. 2
485584146195. 3
485584146196. 4

Question Number : 165 Question Id : 48558436550 Question Type : MCQ Option Shuffling : No Is Question Mandatory : No Calculator : None Response Time : N.A Think Time : N.A Minimum Instruction Time : 0

Correct Marks : 5 Wrong Marks : 1

Question Key Details :

Key	Value
Comprehension	MCQ

The term "Development Communication" was first coined by Quebral in which year?

1. 1969
2. 1970
3. 1972
4. 1974

Options :

485584146197. 1
485584146198. 2
485584146199. 3
485584146200. 4

Question Number : 165 Question Id : 48558436550 Question Type : MCQ Option Shuffling : No Is Question Mandatory : No Calculator : None Response Time : N.A Think Time : N.A Minimum Instruction Time : 0

Correct Marks : 5 Wrong Marks : 1

Question Key Details :

Key	Value
Comprehension	MCQ

ترقیاتی ترسیل، سے آپ کیا سمجھتے ہیں؟

1. زبانی ترسیل کا علم و فن
2. ڈیجیٹل ترسیل کا علم و فن
3. انسانی ترسیل کا علم و فن
4. مواد کی ترقی کا علم و فن

Options :

485584146197. 1
485584146198. 2
485584146199. 3
485584146200. 4

Question Number : 166 Question Id : 48558436551 Question Type : MCQ Option Shuffling : No Is Question Mandatory : No Calculator : None Response Time : N.A Think Time : N.A Minimum Instruction Time : 0

Correct Marks : 5 Wrong Marks : 1

Question Key Details :

Key	Value
Comprehension	MCQ

To create focused attention on a small village in Delhi, the Project village Chattera was started in 1969. Which newspaper was involved in this project?

1. The Times of India
2. The Hindustan Times
3. Navbharat times
4. The Hindu

Options :

485584146201. 1
485584146202. 2
485584146203. 3
485584146204. 4

Question Number : 166 Question Id : 48558436551 Question Type : MCQ Option Shuffling : No Is Question Mandatory : No Calculator : None Response Time : N.A Think Time : N.A Minimum Instruction Time : 0

Correct Marks : 5 Wrong Marks : 1

Question Key Details :

Key	Value
Comprehension	MCQ

دلی کی چھوٹے سے گاؤں میں توجہ پیدا کرنے کے لیے 1969 میں 'چھیترا گرام یوجنا' شروع کی گئی۔ کون سا اخبار اس پروجیکٹ میں شامل تھا؟

1. (The Times of India) د ٹائمس آف انڈیا
2. (The Hindustan Times) د ہندوستان ٹائمس
3. (Navbharat times) نو بھارت ٹائمس
4. (The Hindu) د ہندو

Options :

485584146201. 1
485584146202. 2
485584146203. 3
485584146204. 4

Question Number : 167 Question Id : 48558436552 Question Type : MCQ Option Shuffling : No Is Question Mandatory : No Calculator : None Response Time : N.A Think Time : N.A Minimum Instruction Time : 0

Correct Marks : 5 Wrong Marks : 1

Question Key Details :

Key	Value
Comprehension	MCQ

In which of the following disease condition, low fibre diet is recommended?

1. Diarrhoea
2. Constipation
3. Diabetes
4. Heart disease

Options :

485584146205. 1
485584146206. 2
485584146207. 3
485584146208. 4

Question Number : 167 Question Id : 48558436552 Question Type : MCQ Option Shuffling : No Is Question Mandatory : No Calculator : None Response Time : N.A Think Time : N.A Minimum Instruction Time : 0

Correct Marks : 5 Wrong Marks : 1

Question Key Details :

Key	Value
Comprehension	MCQ

کم فائبر کی غذا کی سفارش _____ میں کی جاتی ہے۔

1. اسہال (Diarrhoea)
2. قبض (Constipation)
3. ذیابیطس (Diabetes)
4. دل کی بیماری

Options :

485584146205. 1
485584146206. 2
485584146207. 3
485584146208. 4

Question Number : 168 Question Id : 48558436553 Question Type : MCQ Option Shuffling : No Is Question Mandatory : No Calculator : None Response Time : N.A Think Time : N.A Minimum Instruction Time : 0

Correct Marks : 5 Wrong Marks : 1

Question Key Details :

Key	Value
Comprehension	MCQ

Which of the following is a welfare catering service ?

1. Holiday camps
2. Langar
3. Clubs
4. Flight kitchens

Options :

485584146209. 1
485584146210. 2
485584146211. 3
485584146212. 4

Question Number : 168 Question Id : 48558436553 Question Type : MCQ Option Shuffling : No Is Question Mandatory : No Calculator : None Response Time : N.A Think Time : N.A Minimum Instruction Time : 0

Correct Marks : 5 Wrong Marks : 1

Question Key Details :

Key	Value
Comprehension	MCQ

مندرجہ ذیل میں سے کون سی فلاحی کیٹرنگ سروس ہے؟

1. چھٹیوں کے کیس
2. صنعتی کیٹین
3. کلیس
4. موبائل کیٹرنگ

Options :

485584146209. 1
485584146210. 2
485584146211. 3
485584146212. 4

Question Number : 169 Question Id : 48558436554 Question Type : MCQ Option Shuffling : No Is Question Mandatory : No Calculator : None Response Time : N.A Think Time : N.A Minimum Instruction Time : 0

Correct Marks : 5 Wrong Marks : 1

Question Key Details :

Key	Value
Comprehension	MCQ

Which of these is NOT a feature of GMP (Good Manufacturing Practice)?

1. Minimise false labelling
2. Consumer education
3. Eliminate contamination
4. Mislead consumer

Options :

485584146213. 1
485584146214. 2
485584146215. 3
485584146216. 4

Question Number : 169 Question Id : 48558436554 Question Type : MCQ Option Shuffling : No Is Question Mandatory : No Calculator : None Response Time : N.A Think Time : N.A Minimum Instruction Time : 0

Correct Marks : 5 Wrong Marks : 1

Question Key Details :

Key	Value
Comprehension	MCQ

مندرجہ ذیل میں سے کون سی خصوصیت 'جی ایم پی' (اچھی صنعتی عمل) کی نہیں ہے؟

1. چھوٹی لیبلنگ کو کم کرنا
2. خریدار کے لیے تعلیم
3. گندگی کو ختم کرنا
4. خریدار کو گمراہ کرنا

Options :

485584146213. 1
485584146214. 2
485584146215. 3
485584146216. 4

Question Number : 170 Question Id : 48558436555 Question Type : MCQ Option Shuffling : No Is Question Mandatory : No Calculator : None Response Time : N.A Think Time : N.A Minimum Instruction Time : 0

Correct Marks : 5 Wrong Marks : 1

Question Key Details :

Key	Value
Comprehension	MCQ

In the context of food standards regulations, which of the following is an international reference for quality management of an organisation?

1. ISO 6000
2. ISO 7000
3. ISO 8000
4. ISO 9000

Options :

485584146217. 1
485584146218. 2
485584146219. 3
485584146220. 4

Question Number : 170 Question Id : 48558436555 Question Type : MCQ Option Shuffling : No Is Question Mandatory : No Calculator : None Response Time : N.A Think Time : N.A Minimum Instruction Time : 0

Correct Marks : 5 Wrong Marks : 1

Question Key Details :

Key	Value
Comprehension	MCQ

فوڈ اسٹینڈرڈ ریگولیشن کی روشنی میں، مندرجہ ذیل میں سے کون سی تنظیم بہتر انتظام کا حوالہ بنتی ہے؟

1. ISO 6000
2. ISO 7000
3. ISO 8000
4. ISO 9000

Options :

485584146217. 1
485584146218. 2
485584146219. 3
485584146220. 4

Question Number : 171 Question Id : 48558436556 Question Type : MCQ Option Shuffling : No Is Question Mandatory : No Calculator : None Response Time : N.A Think Time : N.A Minimum Instruction Time : 0

Correct Marks : 5 Wrong Marks : 1

Question Key Details :

Key	Value
Comprehension	MCQ

In the context of food safety, intentional or accidental addition of impure ingredients that alters the properties and diminishes the quality of food is known as _____.

1. Contamination
2. Toxicity
3. Adulteration
4. Hazard

Options :

485584146221. 1
485584146222. 2
485584146223. 3
485584146224. 4

Question Number : 171 Question Id : 48558436556 Question Type : MCQ Option Shuffling : No Is Question Mandatory : No Calculator : None Response Time : N.A Think Time : N.A Minimum Instruction Time : 0

Correct Marks : 5 Wrong Marks : 1

Question Key Details :

Key	Value
Comprehension	MCQ

کھانے کی حفاظت کے اعتبار سے، ارتکاز سے، ارادتاً اور غیر ارادتاً کسی گندی چیز کو ملا دینا جو کھانے کے معیار اور اس کی صفت کو کم کر دیتا ہے اسے _____ کہتے ہیں۔

1. گندہ کرنا/آلودہ کرنا (Contamination)
2. زہریلا (Toxicity)
3. آمیزش (Adulteration)
4. خطرہ (Hazard)

Options :

485584146221. 1
485584146222. 2
485584146223. 3
485584146224. 4

Question Number : 172 Question Id : 48558436557 Question Type : MCQ Option Shuffling : No Is Question Mandatory : No Calculator : None Response Time : N.A Think Time : N.A Minimum Instruction Time : 0

Correct Marks : 5 Wrong Marks : 1

Question Key Details :

Key	Value
Comprehension	MCQ

Fortification as an intervention is used under which of the following strategies to combat public nutrition problems ?

1. Nutrient based strategy
2. Medicinal strategy
3. Diet based strategy
4. Supplement based strategy

Options :

485584146225. 1
485584146226. 2
485584146227. 3
485584146228. 4

Question Number : 172 Question Id : 48558436557 Question Type : MCQ Option Shuffling : No Is Question Mandatory : No Calculator : None Response Time : N.A Think Time : N.A Minimum Instruction Time : 0

Correct Marks : 5 Wrong Marks : 1

Question Key Details :

Key	Value
Comprehension	MCQ

استہکام () مداخلت کے طور پر مندرجہ ذیل میں سے کون سی حکمت عملی کا استعمال لوگوں کی غذائی مسائل سے لڑنے کے لیے کرتا ہے؟

1. مقوی غذا پر منحصر حکمت عملی
2. طبی حکمت عملی
3. غذا پر منحصر حکمت عملی
4. اضافی کھانے پر منحصر حکمت عملی

Options :

485584146225. 1
485584146226. 2
485584146227. 3
485584146228. 4

Question Number : 173 Question Id : 48558436558 Question Type : MCQ Option Shuffling : No Is Question Mandatory : No Calculator : None Response Time : N.A Think Time : N.A Minimum Instruction Time : 0

Correct Marks : 5 Wrong Marks : 1

Question Key Details :

Key	Value
Comprehension	MCQ

Which of the following is referred to as "Hidden Hunger" in the context of nutritional problems?

1. Micronutrient deficiencies
2. Malnutrition
3. Stunting
4. Wasting

Options :

485584146229. 1
485584146230. 2
485584146231. 3
485584146232. 4

Question Number : 173 Question Id : 48558436558 Question Type : MCQ Option Shuffling : No Is Question Mandatory : No Calculator : None Response Time : N.A Think Time : N.A Minimum Instruction Time : 0

Correct Marks : 5 Wrong Marks : 1

Question Key Details :

Key	Value
Comprehension	MCQ

مندرجہ ذیل میں سے کس کو غذائیت کے مسائل کے تناظر میں ” اندرونی بھوک“ کہا جاتا ہے؟

1. چھوٹی () غذائی اجزاء کی کمی
2. تغذیہ کی کمی
3. پست قامت
4. وزن کم ہونا

Options :

485584146229. 1
485584146230. 2
485584146231. 3
485584146232. 4

Question Number : 174 Question Id : 48558436559 Question Type : MCQ Option Shuffling : No Is Question Mandatory : No Calculator : None Response Time : N.A Think Time : N.A Minimum Instruction Time : 0

Correct Marks : 5 Wrong Marks : 1

Question Key Details :

Key	Value
Comprehension	MCQ

Which of the following government body framed the National Nutrition Policy (NNP) of India in the year 1993?

1. Department of Women and Child Development
2. Ministry of Health and Family Welfare
3. Department of Science and Technology
4. Ministry of Consumer Affairs

Options :

485584146233. 1
485584146234. 2
485584146235. 3
485584146236. 4

Question Number : 174 Question Id : 48558436559 Question Type : MCQ Option Shuffling : No Is Question Mandatory : No Calculator : None Response Time : N.A Think Time : N.A Minimum Instruction Time : 0

Correct Marks : 5 Wrong Marks : 1

Question Key Details :

Key	Value
Comprehension	MCQ

مندرجہ ذیل اداروں میں سے کس نے سال 1993 میں ہندوستان کی قومی عزائیت کی پالیسی بنائی؟

1. خواتین اور بچوں کی ترقی کے محکمے
2. صحت اور خوشحال فیملی کی وزارت
3. سائنس اور ٹیکنالوجی کے شعبہ
4. صارفین کے امور کی وزارت

Options :

485584146233. 1
485584146234. 2
485584146235. 3
485584146236. 4

Question Number : 175 Question Id : 48558436560 Question Type : MCQ Option Shuffling : No Is Question Mandatory : No Calculator : None Response Time : N.A Think Time : N.A Minimum Instruction Time : 0

Correct Marks : 5 Wrong Marks : 1

Question Key Details :

Key	Value
Comprehension	MCQ

Arrange the organizational structure / hierarchy followed by housekeeping department from top to bottom.

- A. Assistant housekeeper
- B. Room attendant
- C. Executive housekeeper
- D. Housemen
- E. Floor supervisor

Choose the correct answer from the options given below:

1. A, B, C, D, E
2. C, A, E, D, B
3. A, C, E, B, D
4. C, A, E, B, D

Options :

485584146237. 1
485584146238. 2
485584146239. 3
485584146240. 4

Question Number : 175 Question Id : 48558436560 Question Type : MCQ Option Shuffling : No Is Question Mandatory : No Calculator : None Response Time : N.A Think Time : N.A Minimum Instruction Time : 0

Correct Marks : 5 Wrong Marks : 1

Question Key Details :

Key	Value
Comprehension	MCQ

تنظیمی ڈھانچے/درجہ بندی کو ترتیب دیں جس کے بعد عام طور پر اوپر سے نیچے تک ہاؤس کیپنگ کا محکمہ ہوتا ہے۔

- A. معاون ملازم
- B. کمرے کا ملازم
- C. انتظامی ملازم
- D. گہر کا خادم
- E. فرش کا نگران

مندرجہ ذیل انتخابات میں درست جواب کو منتخب کریں:

1. A, B, C, D, E
2. C, A, E, D, B
3. A, C, E, B, D
4. C, A, E, B, D

Options :

- 485584146237. 1
- 485584146238. 2
- 485584146239. 3
- 485584146240. 4

Question Number : 176 Question Id : 48558436561 Question Type : MCQ Option Shuffling : No Is Question Mandatory : No Calculator : None Response Time : N.A Think Time : N.A Minimum Instruction Time : 0

Correct Marks : 5 Wrong Marks : 1

Question Key Details :

Key	Value
Comprehension	MCQ

Give the correct sequence of different stages of apparel production.

- A. Finishing and packaging
- B. Procurement and inspection of raw material
- C. Laying and cutting of fabric / material
- D. Assembly of the product

Choose the correct answer from the options given below:

1. A, B, C, D
2. B, A, C, D
3. D, A, B, C
4. B, C, D, A

Options :

- 485584146241. 1
- 485584146242. 2
- 485584146243. 3
- 485584146244. 4

Question Number : 176 Question Id : 48558436561 Question Type : MCQ Option Shuffling : No Is Question Mandatory : No Calculator : None Response Time : N.A Think Time : N.A Minimum Instruction Time : 0

Correct Marks : 5 Wrong Marks : 1

Question Key Details :

Key	Value
Comprehension	MCQ

زری کے پیداوار کے مخالف مراحل کو درست ترتیب میں رکھیں۔

- A. کام کا پورا کرنا اور پیسٹ بنانا
- B. کچے مال کی خریداری اور معائنہ
- C. کپڑے کو بچھانا اور کاٹنا
- D. پیداوار کا اگتھا کرنا

مندرجہ ذیل انتخابات میں سے درست جواب کو منتخب کریں:

1. A, B, C, D
2. B, A, C, D
3. D, A, B, C
4. B, C, D, A

Options :

- 485584146241. 1
- 485584146242. 2
- 485584146243. 3
- 485584146244. 4

Question Number : 177 Question Id : 48558436562 Question Type : MCQ Option Shuffling : No Is Question Mandatory : No Calculator : None Response Time : N.A Think Time : N.A Minimum Instruction Time : 0

Correct Marks : 5 Wrong Marks : 1

Question Key Details :

Key	Value
Comprehension	MCQ

Arrange the given steps of nutritional care during illness in the correct sequence.

- A. Assessing nutritional status
- B. Planning and prioritising nutrition intervention(s)
- C. Diagnosis of nutritional problems
- D. Making changes in the nutritional care outcomes, if necessary
- E. Evaluating nutritional care outcomes

Choose the correct answer from the options given below:

1. C, B, A, D, E
2. C, E, B, A, D
3. A, C, B, E, D
4. A, C, B, D, E

Options :

485584146245. 1
485584146246. 2
485584146247. 3
485584146248. 4

**Question Number : 177 Question Id : 48558436562 Question Type : MCQ Option Shuffling : No Is Question Mandatory :
No Calculator : None Response Time : N.A Think Time : N.A Minimum Instruction Time : 0**

Correct Marks : 5 Wrong Marks : 1

Question Key Details :

Key	Value
Comprehension	MCQ

غزائی دیکھ بھال کے اقدام کو درست ترتیب میں لکھیں:

- A. خزائی معیار کا معائنہ کرنا
B. منصوبہ بندی اور غزائی مداخلتوں کو ترجیح دینا
C. مسائل کی تشخیص
D. ضرورت پڑنے پر تبدیلی
E. غزائی کی دیکھ بھال کے نتائج کا جائزہ

مندرجہ ذیل انتخابات میں سے درست جواب کو منتخب کریں:

1. C, B, A, D, E
2. C, E, B, A, D
3. A, C, B, E, D
4. A, C, B, D, E

Options :

485584146245. 1
485584146246. 2
485584146247. 3
485584146248. 4

**Question Number : 178 Question Id : 48558436563 Question Type : MCQ Option Shuffling : No Is Question Mandatory :
No Calculator : None Response Time : N.A Think Time : N.A Minimum Instruction Time : 0**

Correct Marks : 5 Wrong Marks : 1

Question Key Details :

Key	Value
Comprehension	MCQ

Which of the following is NOT a department/sector in hospitality industry?

1. Recruitment and staffing
2. Entertainment and recreation
3. Accommodation or front office
4. Food and beverage service

Options :

485584146249. 1
485584146250. 2
485584146251. 3
485584146252. 4

Question Number : 178 Question Id : 48558436563 Question Type : MCQ Option Shuffling : No Is Question Mandatory : No Calculator : None Response Time : N.A Think Time : N.A Minimum Instruction Time : 0

Correct Marks : 5 Wrong Marks : 1

Question Key Details :

Key	Value
Comprehension	MCQ

مہمان نوازی کے انڈسٹری کے تحت مندرجہ ذیل میں سے کون سا شعبہ نہیں ہے؟

1. بھرتی اور عملہ
2. تفریحی سرگرمیاں
3. رہائش اور فرنٹ آفس
4. کھانے اور مشروبات کی خدمت

Options :

485584146249. 1
485584146250. 2
485584146251. 3
485584146252. 4

Question Number : 179 Question Id : 48558436564 Question Type : MCQ Option Shuffling : No Is Question Mandatory : No Calculator : None Response Time : N.A Think Time : N.A Minimum Instruction Time : 0

Correct Marks : 5 Wrong Marks : 1

Question Key Details :

Key	Value
Comprehension	MCQ

Which of the following falls under the category of rewards given to sustain high performance employees in an organisation ?

- A. Paid holidays
- B. Tax incentives
- C. Financial packages for children's education
- D. Financial compensation like driver's wages
- E. Disability insurance

Choose the correct answer from the options given below:

1. A, C and E only
2. A, C and D only
3. A, D and E only
4. B, C and D only

Options :

- 485584146253. 1
- 485584146254. 2
- 485584146255. 3
- 485584146256. 4

Question Number : 179 Question Id : 48558436564 Question Type : MCQ Option Shuffling : No Is Question Mandatory : No Calculator : None Response Time : N.A Think Time : N.A Minimum Instruction Time : 0

Correct Marks : 5 Wrong Marks : 1

Question Key Details :

Key	Value
Comprehension	MCQ

مندرجہ ذیل میں سے کون کسی تنظیم میں اعلیٰ کارکردگی والے ملازمین کو برقرار رکھنے کے لیے دئے جانے والے انعامات کے زمرے میں آئے گا؟

- A. پیڈ چھٹیاں (Paid holidays)
- B. ٹیکس مراعات
- C. بچوں کی تعلیم کے لیے مالیاتی پیکیج
- D. مالی معاوضہ جیسے ڈرائیور کی اجرت
- E. معزوری انشورنس

مندرجہ ذیل انتخابات میں سے درست جواب منتخب کریں:

1. صرف A, C اور E
2. صرف A, C اور D
3. صرف A, D اور E
4. صرف B, C اور D

Options :

- 485584146253. 1
- 485584146254. 2

485584146255. 3

485584146256. 4

Question Number : 180 Question Id : 48558436565 Question Type : MCQ Option Shuffling : No Is Question Mandatory : No Calculator : None Response Time : N.A Think Time : N.A Minimum Instruction Time : 0

Correct Marks : 5 Wrong Marks : 1

Question Key Details :

Key	Value
Comprehension	MCQ

Which of the following is NOT a function of human resources/talent management?

1. Marketing management
2. Getting the best employees
3. Retention and redressal
4. Training and developing employees

Options :

485584146257. 1

485584146258. 2

485584146259. 3

485584146260. 4

Question Number : 180 Question Id : 48558436565 Question Type : MCQ Option Shuffling : No Is Question Mandatory : No Calculator : None Response Time : N.A Think Time : N.A Minimum Instruction Time : 0

Correct Marks : 5 Wrong Marks : 1

Question Key Details :

Key	Value
Comprehension	MCQ

مندرجہ ذیل میں کون انسانی ذرائع انتظامیہ کا عمل نہیں ہے

1. بازاری انتظام
2. بہترین ملازم کا حاصل کرنا
3. برقرار رکھنا اور اصلاح
4. ٹریننگ اور ترقی دینا

Options :

485584146257. 1

485584146258. 2

485584146259. 3

485584146260. 4

Question Number : 181 Question Id : 48558436566 Question Type : MCQ Option Shuffling : No Is Question Mandatory : No Calculator : None Response Time : N.A Think Time : N.A Minimum Instruction Time : 0

Correct Marks : 5 Wrong Marks : 1

Question Key Details :

Key	Value
-----	-------

A diet can be modified to meet the medical needs of a patient through which of the following?

- Changing consistency and/or texture
- Adding supplements
- Increase or decrease in the amount of one or more nutrients
- Increase or decrease in calorie intake
- Making an all fruit diet

Choose the correct answer from the options given below:

- A, B and E only
- A, C and E only
- B, C and D only
- A, C and D only

Options :

485584146261. 1
485584146262. 2
485584146263. 3
485584146264. 4

Question Number : 181 Question Id : 48558436566 Question Type : MCQ Option Shuffling : No Is Question Mandatory : No Calculator : None Response Time : N.A Think Time : N.A Minimum Instruction Time : 0

Correct Marks : 5 Wrong Marks : 1

Question Key Details :

Key	Value
Comprehension	MCQ

شخص کی طبی ضروریات کو پورا کرنے کے لیے خوراک میں تبدیلی کی جاسکتی ہے:

- مستقل مزازی یا ساخت کو تبدیل کرنا
- اضافی سپلیمنٹ
- غذائی اجزاء میں اضافہ یا کمی
- کیلوری کے مقدار میں اضافہ یا کمی
- تمام پھلوں کی خوراک بنانا

مندرجہ ذیل انتخابات میں سے درست جواب کو منتخب کریں

- صرف A, B اور E
- صرف A, C اور E
- صرف B, C اور D
- صرف A, C اور D

Options :

485584146261. 1
485584146262. 2
485584146263. 3

485584146264. 4

Question Number : 182 Question Id : 48558436567 Question Type : MCQ Option Shuffling : No Is Question Mandatory : No Calculator : None Response Time : N.A Think Time : N.A Minimum Instruction Time : 0

Correct Marks : 5 Wrong Marks : 1

Question Key Details :

Key	Value
Comprehension	MCQ

Shreya wants to design a dress by incorporating rhythm design principle. Which of the following can NOT be used to create rhythm?

1. Use of contrasting colours
2. Cordation
3. Radiation
4. Parallelism

Options :

485584146265. 1
485584146266. 2
485584146267. 3
485584146268. 4

Question Number : 182 Question Id : 48558436567 Question Type : MCQ Option Shuffling : No Is Question Mandatory : No Calculator : None Response Time : N.A Think Time : N.A Minimum Instruction Time : 0

Correct Marks : 5 Wrong Marks : 1

Question Key Details :

Key	Value
Comprehension	MCQ

شریا ردم ڈیزائن کے اصول کو عمل میں لا کر لباس ڈیزائن کرنا چاہتی ہے۔ ردم پیدا کرنے کا کون سا درست طریقہ نہیں ہے؟

1. مختلف طرح کے رنگوں کا استعمال
2. کورڈیشن
3. ریڈیشن
4. متوازی

Options :

485584146265. 1
485584146266. 2
485584146267. 3
485584146268. 4

Question Number : 183 Question Id : 48558436568 Question Type : MCQ Option Shuffling : No Is Question Mandatory : No Calculator : None Response Time : N.A Think Time : N.A Minimum Instruction Time : 0

Correct Marks : 5 Wrong Marks : 1

Question Key Details :

Key	Value
-----	-------

Identify the aspects relating to care and maintenance of fabrics:

- Keeping the material free of physical damage
- Discard clothes if any damage occurs
- Refreshing or retaining the appearance by removing stains and dirt
- Retaining the textural and visual characteristics
- Changing the visual characteristics

Choose the correct answer from the options given below:

- A, B and C only
- B, C and D only
- C, D and E only
- A, C and D only

Options :

485584146269. 1
485584146270. 2
485584146271. 3
485584146272. 4

Question Number : 183 Question Id : 48558436568 Question Type : MCQ Option Shuffling : No Is Question Mandatory : No Calculator : None Response Time : N.A Think Time : N.A Minimum Instruction Time : 0

Correct Marks : 5 Wrong Marks : 1

Question Key Details :

Key	Value
Comprehension	MCQ

کپڑے کی دیکھ بھال کرنے اور خیال رکھنے میں چند پہلو شامل ہے۔ ان کی شناخت کریں:

- مواد کی باہری نقصان سے بچا کر رکھیں
- اگر کپڑے کو کوئی نقصان ہوتا ہے تو اسے پھینک دیں
- داغ اور دھول کو ہٹا کر کپڑے پر تازگی برقرار رکھنا
- مٹی اور بصری خصوصیات کو برقرار رکھنا
- بصری خصوصیات کو تبدیل کرنا

مندرجہ ذیل انتخابات میں سے درست جواب کو منتخب کریں:

- صرف A, B اور C
- صرف B, C اور D
- صرف C, D اور E
- صرف A, C اور D

Options :

485584146269. 1
485584146270. 2
485584146271. 3

485584146272. 4

Question Number : 184 Question Id : 48558436569 Question Type : MCQ Option Shuffling : No Is Question Mandatory : No Calculator : None Response Time : N.A Think Time : N.A Minimum Instruction Time : 0

Correct Marks : 5 Wrong Marks : 1

Question Key Details :

Key	Value
Comprehension	MCQ

Which of the following does NOT fall under the category of straight lines ?

1. Vertical
2. Zig-zag
3. Horizontal
4. Diagonal

Options :

485584146273. 1
485584146274. 2
485584146275. 3
485584146276. 4

Question Number : 184 Question Id : 48558436569 Question Type : MCQ Option Shuffling : No Is Question Mandatory : No Calculator : None Response Time : N.A Think Time : N.A Minimum Instruction Time : 0

Correct Marks : 5 Wrong Marks : 1

Question Key Details :

Key	Value
Comprehension	MCQ

مندرجہ ذیل میں سے کون سی سیدھی لکیروں کے تحت شامل نہیں ہے؟

1. عمودی
2. زگ زیگ
3. افقی
4. ڈائیگونل

Options :

485584146273. 1
485584146274. 2
485584146275. 3
485584146276. 4

Question Number : 185 Question Id : 48558436570 Question Type : MCQ Option Shuffling : No Is Question Mandatory : No Calculator : None Response Time : N.A Think Time : N.A Minimum Instruction Time : 0

Correct Marks : 5 Wrong Marks : 1

Question Key Details :

Key	Value
-----	-------

Match List I with List II

LIST I (Processed foods)		LIST II (Examples)	
A.	Preserved foods	I.	Low sodium salt
B.	Manufactured foods	II.	Canned fruits
C.	Formulated foods	III.	Papads
D.	Medical foods	IV.	Ice creams

Choose the correct answer from the options given below:

1. A-I, B-II, C-III, D-IV
2. A-II, B-III, C-I, D-IV
3. A-III, B-II, C-I, D-IV
4. A-II, B-III, C-IV, D-I

Options :

485584146277. 1

485584146278. 2

485584146279. 3

485584146280. 4

Question Number : 185 Question Id : 48558436570 Question Type : MCQ Option Shuffling : No Is Question Mandatory : No Calculator : None Response Time : N.A Think Time : N.A Minimum Instruction Time : 0

Correct Marks : 5 Wrong Marks : 1

Question Key Details :

Key	Value
Comprehension	MCQ

فہرست I سے فہرست II کو ملائیں

فہرست II (مثالیں)	فہرست I (کھانے کی اشیاء)
.I کم سوڈیم والا نمک	.A محفوظ شدہ خوراک
.II تیلہ میں بند پھل	.B تیار شدہ خوراک
.III پائیز	.C وضع شدہ خوراک
.IV آئنس کریم	.D طبعی کھانے کی اشیاء

مندرجہ ذیل انتخابات میں سے درست جواب کو منتخب کریں:

1. A-I, B-II, C-III, D-IV
2. A-II, B-III, C-I, D-IV
3. A-III, B-II, C-I, D-IV
4. A-II, B-III, C-IV, D-I

Options :

485584146277. 1
485584146278. 2
485584146279. 3
485584146280. 4

Question Number : 186 Question Id : 48558436571 Question Type : MCQ Option Shuffling : No Is Question Mandatory : No Calculator : None Response Time : N.A Think Time : N.A Minimum Instruction Time : 0

Correct Marks : 5 Wrong Marks : 1

Question Key Details :

Key	Value
Comprehension	MCQ

Match List I with List II

LIST I (Terms)		LIST II (Explanation)	
A.	Food Quality	I.	Assurance that food will not cause any harm to the consumers
B.	Toxicity	II.	Relative probability that harm or injury will result when substance is not used in prescribed manner and quantity
C.	Food Safety	III.	Capacity of a substance to produce harm or injury of any kind under any conditions
D.	Hazard	IV.	Attributes that influence a product's value to consumers

Choose the correct answer from the options given below:

1. A-IV, B-III, C-I, D-II
2. A-I, B-II, C-III, D-IV
3. A-I, B-IV, C-II, D-III
4. A-IV, B-III, C-II, D-I

Options :

- 485584146281. 1
- 485584146282. 2
- 485584146283. 3
- 485584146284. 4

Question Number : 186 Question Id : 48558436571 Question Type : MCQ Option Shuffling : No Is Question Mandatory : No Calculator : None Response Time : N.A Think Time : N.A Minimum Instruction Time : 0

Correct Marks : 5 Wrong Marks : 1

Question Key Details :

Key	Value
Comprehension	MCQ

فہرست II (وضاحت)	فہرست I (الفاظ)
I. اس بات کا یقین دلائیں کہ کھانے نقصان نہیں پہنچائے گا	A. کھانے کا معیار
II. متعلقہ امکان کہ نقصان یا اثر و رسوخ کے نتیجہ میں جب تجویز کردہ طریقہ سے استعمال نہ کیا جائے	B. زہریلا
III. کسی چیز میں نقصان پیدا کرنے کی صلاحیت	C. کھانے کی حفاظت
IV. ایسی خصوصیات جو خریدار پر سامان کی قیمت کو متاثر کرتی ہے۔	D. خطرہ

مندرجہ ذیل انتخابات میں سے درست جواب کو منتخب کریں:

1. A-IV, B-III, C-I, D-II
2. A-I, B-II, C-III, D-IV
3. A-I, B-IV, C-II, D-III
4. A-IV, B-III, C-II, D-I

Options :

485584146281. 1
485584146282. 2
485584146283. 3
485584146284. 4

Question Number : 187 Question Id : 48558436572 Question Type : MCQ Option Shuffling : No Is Question Mandatory : No Calculator : None Response Time : N.A Think Time : N.A Minimum Instruction Time : 0

Correct Marks : 5 Wrong Marks : 1

Question Key Details :

Key	Value
Comprehension	MCQ

Match List I with List II

LIST I (Extension Projects)		LIST II (Communication tools used)	
A.	RRE	I.	Satellite
B.	SEWA	II.	Print media
C.	Project Village Chhatera	III.	Campaign
D.	EDUSAT	IV.	ICT

Choose the correct answer from the options given below:

1. A-II, B-I, C-IV, D-III
2. A-IV, B-I, C-III, D-II
3. A-III, B-IV, C-II, D-I
4. A-II, B-III, C-I, D-IV

Options :

485584146285. 1
485584146286. 2
485584146287. 3
485584146288. 4

Question Number : 187 Question Id : 48558436572 Question Type : MCQ Option Shuffling : No Is Question Mandatory : No Calculator : None Response Time : N.A Think Time : N.A Minimum Instruction Time : 0

Correct Marks : 5 Wrong Marks : 1

Question Key Details :

Key	Value
Comprehension	MCQ

فہرست I سے فہرست II کو ملائیں

فہرست II (مواصلات میں استعمال ہونے والا آلہ)		فہرست I (توسیعی منصوبے)	
I.	اسٹیلایٹ	RRE	A.
II.	پرنٹ میڈیا	SEWA	B.
III.	مہم	چھینٹرا گرام پروجنا	C.
IV.	ICT	EDUSAT	D.

مندرجہ ذیل انتخابات میں سے درست جواب کو منتخب کریں:

1. A-II, B-I, C-IV, D-III
2. A-IV, B-I, C-III, D-II
3. A-III, B-IV, C-II, D-I
4. A-II, B-III, C-I, D-IV

Options :

485584146285. 1
 485584146286. 2
 485584146287. 3
 485584146288. 4

Question Number : 188 Question Id : 48558436573 Question Type : MCQ Option Shuffling : No Is Question Mandatory : No Calculator : None Response Time : N.A Think Time : N.A Minimum Instruction Time : 0

Correct Marks : 5 Wrong Marks : 1

Question Key Details :

Key	Value
Comprehension	MCQ

Match List I with List II

LIST I (Terms)		LIST II (Description)	
A.	Quality Assurance	I.	Process of implementation and monitoring of quality systems like TQM, ISO
B.	Quality control	II.	Process of problem solving with the purpose of getting a 'zero-defect' product
C.	Quality Management	III.	Characteristics of the product that are given by the buyer or desired by the consumer
D.	Specifications	IV.	Process of preventive problem management

Choose the correct answer from the options given below:

1. A-IV, B-II, C-I, D-III
2. A-IV, B-I, C-II, D-III
3. A-IV, B-II, C-III, D-I
4. A-I, B-II, C-IV, D-III

Options :

485584146289. 1
 485584146290. 2
 485584146291. 3
 485584146292. 4

Question Number : 188 Question Id : 48558436573 Question Type : MCQ Option Shuffling : No Is Question Mandatory : No Calculator : None Response Time : N.A Think Time : N.A Minimum Instruction Time : 0

Correct Marks : 5 Wrong Marks : 1

Question Key Details :

Key	Value
Comprehension	MCQ

فہرست II (معنی)	فہرست I (الفاظ)
.I. معیار کے نظام کے نفاذ اور نگرانی کا عمل	.A. کوالٹی انشورینس
.II. بنا عیب کے پروڈکٹ حاصل کرنے کے ایک مقصد کے ساتھ مسئلہ حل کرنے کا عمل	.B. کوالٹی کنٹرول
.III. خریدار کی طرف سے دی گئی عیب دار سامان کی خصوصیات	.C. کوالٹی مینجمنٹ
.IV. روک تھام کے مسئلہ کے انتظام کے عمل	.D. وضاحتیں

مندرجہ ذیل انتخابات میں سے درست جواب کو منتخب کریں:

1. A-IV, B-II, C-I, D-III
2. A-IV, B-I, C-II, D-III
3. A-IV, B-II, C-III, D-I
4. A-I, B-II, C-IV, D-III

Options :

485584146289. 1
485584146290. 2
485584146291. 3
485584146292. 4

Question Number : 189 Question Id : 48558436574 Question Type : MCQ Option Shuffling : No Is Question Mandatory : No Calculator : None Response Time : N.A Think Time : N.A Minimum Instruction Time : 0

Correct Marks : 5 Wrong Marks : 1

Question Key Details :

Key	Value
Comprehension	MCQ

Match List I with List II

LIST I (Designations)	LIST II (Duties)
A. Head waiter	I. Reserves, registers and assign rooms to guests
B. Chef-de-cuisine	II. Supervisors for some sections of the kitchen
C. Receptionist	III. Lead a team of waiters/stewards
D. Chef-de-parties	IV. Planning, organising and controlling the kitchen operations

Choose the correct answer from the options given below:

1. A-III, B-IV, C-I, D-II
2. A-II, B-IV, C-III, D-I
3. A-I, B-II, C-III, D-IV
4. A-IV, B-II, C-I, D-III

Options :

485584146293. 1
485584146294. 2

485584146295. 3

485584146296. 4

Question Number : 189 Question Id : 48558436574 Question Type : MCQ Option Shuffling : No Is Question Mandatory : No Calculator : None Response Time : N.A Think Time : N.A Minimum Instruction Time : 0

Correct Marks : 5 Wrong Marks : 1

Question Key Details :

Key	Value
Comprehension	MCQ

فہرست I سے فہرست II کو ملائیں

فہرست II (نمہ داری)	فہرست I (پوسٹس)
I. ریسرورجسٹر کرنا اور کم کرنے دینا	A. ہیڈ ویٹر
II. رسوی کی کچھ حصے کا نمدار	B. چیف دی کوزائن
III. ویٹر کی ایک ٹیم کو لیڈ کرنا	C. استقبال کرنے والے
IV. پلاننگ ارگنائزنگ اور کچن کے کام کاج کو کنٹرول کرنا	D. چیف دی پارٹیز

مندرجہ ذیل انتخابات میں سے درست جواب کو منتخب کریں:

1. A-III, B-IV, C-I, D-II

2. A-II, B-IV, C-III, D-I

3. A-I, B-II, C-III, D-IV

4. A-IV, B-II, C-I, D-III

Options :

485584146293. 1

485584146294. 2

485584146295. 3

485584146296. 4

Question Number : 190 Question Id : 48558436575 Question Type : MCQ Option Shuffling : No Is Question Mandatory : No Calculator : None Response Time : N.A Think Time : N.A Minimum Instruction Time : 0

Correct Marks : 5 Wrong Marks : 1

Question Key Details :

Key	Value
Comprehension	MCQ

Match List I with List II

LIST I (Programme)		LIST II (Target group)	
A.	ICDS	I.	Children under 18 years of age
B.	SOS	II.	College going students
C.	Special homes	III.	Children below six years of age
D.	NSS	IV.	Needy/abandoned children

Choose the correct answer from the options given below:

1. A-I, B-IV, C-II, D-I
2. A-IV, B-III, C-I, D-II
3. A-III, B-IV, C-I, D-II
4. A-IV, B-III, C-II, D-I

Options :

485584146297. 1
485584146298. 2
485584146299. 3
485584146300. 4

Question Number : 190 Question Id : 48558436575 Question Type : MCQ Option Shuffling : No Is Question Mandatory : No Calculator : None Response Time : N.A Think Time : N.A Minimum Instruction Time : 0

Correct Marks : 5 Wrong Marks : 1

Question Key Details :

Key	Value
Comprehension	MCQ

فہرست I سے فہرست II کو ملائیں

فہرست II (ٹارگٹ گروپس)		فہرست I (پروگرام)	
18 سال سے کم عمر کے بچے	.I	ICDS	.A
کالج جانے والے طلبہ	.II	SOS	.B
چھ سال سے کم عمر کے بچے	.III	خصوصی گھر	.C
ضرورت مند لاوارث بچے	.IV	NSS	.D

مندرجہ ذیل انتخابات میں سے درست جواب کو منتخب کریں:

1. A-I, B-IV, C-II, D-I
2. A-IV, B-III, C-I, D-II
3. A-III, B-IV, C-I, D-II
4. A-IV, B-III, C-II, D-I

Options :

485584146297. 1
485584146298. 2

485584146299. 3

485584146300. 4

Sub-Section Number : 2
Sub-Section Id : 4855842700
Question Shuffling Allowed : No
Is Section Default? : null

Question Number : 191 Question Id : 48558436576 Question Type : MCQ Option Shuffling : No Is Question Mandatory : No Calculator : None Response Time : N.A Think Time : N.A Minimum Instruction Time : 0

Correct Marks : 5 Wrong Marks : 1

Question Key Details :

Key	Value
Comprehension	Comp1

Read the passage carefully. Attempt Question

Anganwadi Centers (AWCs) are the most common and publicly available facilities, initially constituted in 1975 to strengthen the public health system by providing immunization and health check-ups, and later to provide supplementary nutrition non-formal pre-school education and day-care.

The two key elements of early childhood development include education and health. A child's early years (0 to 8 years) form the foundation of all learning and are therefore the most extraordinary period of development in a child's life. Research has shown that greater cognitive abilities and being developmentally on track with literacy and numeracy in childhood provide for better learning in school and higher educational attainment, leading to major social and economic gains for society in the long run. Similarly, providing children with a nurturing environment in early years, with adequate nutrition, hygiene, protection and responsive stimulation, boosts healthy childhood development and delivers positive outcomes.

The Anganwadi centers were started in which year in India?

1. 1975
2. 1980
3. 1982
4. 1984

Options :

485584146301. 1
485584146302. 2
485584146303. 3
485584146304. 4

Question Number : 191 Question Id : 48558436576 Question Type : MCQ Option Shuffling : No Is Question Mandatory : No Calculator : None Response Time : N.A Think Time : N.A Minimum Instruction Time : 0

Correct Marks : 5 Wrong Marks : 1

Question Key Details :

Key	Value
Comprehension	Comp1

اقتباس کو غور سے پڑھیں اور سوال 41 - 45 تک کا جواب دیں:

آنگن واڑی مراکز سب سے عام اور عوامی طور پر دستیاب سہولیت ہے، جو ابتدائی طور پر 1975 میں امیونائزیشن اور ہیلتھ چیک اپ فراہم کرنے کے لیے اور صحت عامہ نظام کو مضبوط کرنے کے لیے تشکیل کیا گیا تھا، بعد میں اضافی غذا، رسمی پری اسکول تعلیم اور دن میں بچوں کی دیکھ بھال فراہم کرنے کے لیے کیا گیا۔ ت۔ ابتدائی بچوں کی نشوونما کے دو اہم عناصر میں تعلیم اور صحت شامل ہیں۔ بچپن کے ابتدائی سال (سال 0 تا 8) تمام سیکھنے کی بنیاد بناتے ہیں اور اس لیے ترقی کا سب سے اہم دور ہوتا ہے۔ تحقیق سے یہ بات سامنے آئی ہے کہ زیادہ علمی صلاحیتیں اور بچپن میں خواندگی اور اعداد کے ساتھ ترقی کی راہ پر گامزن ہونا اسکول میں بہتر سیکھنے اور اعلیٰ تعلیم کے حصول کا باعث بنتا ہے، جس سے طویل مدت میں معاشرے کے لیے بڑے سماجی اور معاشی فوائد حاصل ہوتے ہیں۔ اسی طرح بچوں کی ابتدائی برسوں میں پرورش کا ماحول فراہم کرنا، مناسب غذائیت، حفظان صحت، تحفظ اور جوابی محرک کے ساتھ صحت مند بچپن کی نشوونما کو فروغ دیتا ہے اور مثبت نتائج فراہم کرتا ہے۔

آنگن واڑی مراکز ہندوستان میں کس سال شروع ہوئے تھے؟

1. 1975
2. 1980
3. 1982
4. 1984

Options :

485584146301. 1
485584146302. 2
485584146303. 3
485584146304. 4

Question Number : 192 Question Id : 48558436577 Question Type : MCQ Option Shuffling : No Is Question Mandatory : No Calculator : None Response Time : N.A Think Time : N.A Minimum Instruction Time : 0

Correct Marks : 5 Wrong Marks : 1

Question Key Details :

Key	Value
Comprehension	Comp1

Read the passage carefully. Attempt Question

Anganwadi Centers (AWCs) are the most common and publicly available facilities, initially constituted in 1975 to strengthen the public health system by providing immunization and health check-ups, and later to provide supplementary nutrition non-formal pre-school education and day-care.

The two key elements of early childhood development include education and health. A child's early years (0 to 8 years) form the foundation of all learning and are therefore the most extraordinary period of development in a child's life. Research has shown that greater cognitive abilities and being developmentally on track with literacy and numeracy in childhood provide for better learning in school and higher educational attainment, leading to major social and economic gains for society in the long run. Similarly, providing children with a nurturing environment in early years, with adequate nutrition, hygiene, protection and responsive stimulation, boosts healthy childhood development and delivers positive outcomes.

Identify the functions of the Anganvadi centres from the following:

- A. Providing immunisation
- B. Supplementary nutrition
- C. Non-formal pre-school education
- D. Supporting children in doing home-work after school

Choose the correct answer from the options given below:

1. B, C and D only
2. A, B and D only
3. A, B and C only
4. A, D and C only

Options :

- 485584146305. 1
- 485584146306. 2
- 485584146307. 3
- 485584146308. 4

Question Number : 192 Question Id : 48558436577 Question Type : MCQ Option Shuffling : No Is Question Mandatory : No Calculator : None Response Time : N.A Think Time : N.A Minimum Instruction Time : 0

Correct Marks : 5 Wrong Marks : 1

Question Key Details :

Key	Value
Comprehension	Comp1

اقتباس کو غور سے پڑھیں اور سوال 41 - 45 تک کا جواب دیں:

آنگن واڑی مراکز سب سے عام اور عوامی طور پر دستیاب سہولیت ہے، جو ابتدائی طور پر 1975 میں امیونائزیشن اور ہیلتھ چیک اپ فراہم کرنے کے لیے اور صحت عامہ نظام کو مضبوط کرنے کے لیے تشکیل کیا گیا تھا، بعد میں اضافی غذا، رسمی پری اسکول تعلیم اور دن میں بچوں کی دیکھ بھال فراہم کرنے کے لیے کیا گیا۔ ت۔ ابتدائی بچوں کی نشوونما کے دو اہم عناصر میں تعلیم اور صحت شامل ہیں۔ بچپن کے ابتدائی سال (سال 0 تا 8) تمام سیکھنے کی بنیاد بناتے ہیں اور اس لیے ترقی کا سب سے اہم دور ہوتا ہے۔ تحقیق سے یہ بات سامنے آئی ہے کہ زیادہ علمی صلاحیتیں اور بچپن میں خواندگی اور اعداد کے ساتھ ترقی کی راہ پر گامزن ہونا اسکول میں بہتر سیکھنے اور اعلیٰ تعلیم کے حصول کا باعث بنتا ہے، جس سے طویل مدت میں معاشرے کے لیے بڑے سماجی اور معاشی فوائد حاصل ہوتے ہیں۔ اسی طرح بچوں کی ابتدائی برسوں میں پرورش کا ماحول فراہم کرنا، مناسب غذائیت، حفظان صحت، تحفظ اور جوابی محرک کے ساتھ صحت مند بچپن کی نشوونما کو فروغ دیتا ہے اور مثبت نتائج فراہم کرتا ہے۔

آنگن واڈی نظام کے کام بہ ہیں:

A. حفاظتی ٹیکوں کی فراہمی

B. اضافی غذائیت

C. غیر رسمی پری اسکول

D. اسکول کے بعد ہوم ورک کرنے میں بچوں کی مدد کرنا

مندرجہ ذیل انتخابات میں سے درست جواب کو منتخب کریں

1. D اور B, C صرف

2. D اور A, B صرف

3. C اور A, B صرف

4. C اور A, D صرف

Options :

485584146305. 1

485584146306. 2

485584146307. 3

485584146308. 4

Question Number : 193 Question Id : 48558436578 Question Type : MCQ Option Shuffling : No Is Question Mandatory : No Calculator : None Response Time : N.A Think Time : N.A Minimum Instruction Time : 0

Correct Marks : 5 Wrong Marks : 1

Question Key Details :

Key	Value
Comprehension	Comp1

Read the passage carefully. Attempt Question

Anganwadi Centers (AWCs) are the most common and publicly available facilities, initially constituted in 1975 to strengthen the public health system by providing immunization and health check-ups, and later to provide supplementary nutrition non-formal pre-school education and day-care.

The two key elements of early childhood development include education and health. A child's early years (0 to 8 years) form the foundation of all learning and are therefore the most extraordinary period of development in a child's life. Research has shown that greater cognitive abilities and being developmentally on track with literacy and numeracy in childhood provide for better learning in school and higher educational attainment, leading to major social and economic gains for society in the long run. Similarly, providing children with a nurturing environment in early years, with adequate nutrition, hygiene, protection and responsive stimulation, boosts healthy childhood development and delivers positive outcomes.

The two key elements of early childhood development are _____

1. Nutrition and immunisation
2. Health and education
3. School readiness and health
4. Day care and creche

Options :

485584146309. 1
485584146310. 2
485584146311. 3
485584146312. 4

Question Number : 193 Question Id : 48558436578 Question Type : MCQ Option Shuffling : No Is Question Mandatory : No Calculator : None Response Time : N.A Think Time : N.A Minimum Instruction Time : 0

Correct Marks : 5 Wrong Marks : 1

Question Key Details :

Key	Value
Comprehension	Comp1

اقتباس کو غور سے پڑھیں اور سوال 41 - 45 تک کا جواب دیں:

آنگن واڑی مراکز سب سے عام اور عوامی طور پر دستیاب سہولیت ہے، جو ابتدائی طور پر 1975 میں امیونائزیشن اور ہیلتھ چیک اپ فراہم کرنے کے لیے اور صحت عامہ نظام کو مضبوط کرنے کے لیے تشکیل کیا گیا تھا، بعد میں اضافی غذا، رسمی پری اسکول تعلیم اور دن میں بچوں کی دیکھ بھال فراہم کرنے کے لیے کیا گیا۔ ت۔ ابتدائی بچوں کی نشوونما کے دو اہم عناصر میں تعلیم اور صحت شامل ہیں۔ بچپن کے ابتدائی سال (سال 0 تا 8) تمام سیکھنے کی بنیاد بناتے ہیں اور اس لیے ترقی کا سب سے اہم دور ہوتا ہے۔ تحقیق سے یہ بات سامنے آئی ہے کہ زیادہ علمی صلاحیتیں اور بچپن میں خواندگی اور اعداد کے ساتھ ترقی کی راہ پر گامزن ہونا اسکول میں بہتر سیکھنے اور اعلیٰ تعلیم کے حصول کا باعث بنتا ہے، جس سے طویل مدت میں معاشرے کے لیے بڑے سماجی اور معاشی فوائد حاصل ہوتے ہیں۔ اسی طرح بچوں کی ابتدائی برسوں میں پرورش کا ماحول فراہم کرنا، مناسب غذائیت، حفظان صحت، تحفظ اور جوابی محرک کے ساتھ صحت مند بچپن کی نشوونما کو فروغ دیتا ہے اور مثبت نتائج فراہم کرتا ہے۔

ابتدائی بچپن کے دو اہم عناصر ہیں:

1. غذائیت اور حفاظتی ٹیکے
2. صحت اور تعلیم
3. اسکول کی تیاری اور صحت
4. دن کی دیکھ بھال اور کریچ

Options :

485584146309. 1
485584146310. 2
485584146311. 3
485584146312. 4

Question Number : 194 Question Id : 48558436579 Question Type : MCQ Option Shuffling : No Is Question Mandatory : No Calculator : None Response Time : N.A Think Time : N.A Minimum Instruction Time : 0

Correct Marks : 5 Wrong Marks : 1

Question Key Details :

Key	Value
Comprehension	Comp1

Read the passage carefully. Attempt Question

Anganwadi Centers (AWCs) are the most common and publicly available facilities, initially constituted in 1975 to strengthen the public health system by providing immunization and health check-ups, and later to provide supplementary nutrition non-formal pre-school education and day-care.

The two key elements of early childhood development include education and health. A child's early years (0 to 8 years) form the foundation of all learning and are therefore the most extraordinary period of development in a child's life. Research has shown that greater cognitive abilities and being developmentally on track with literacy and numeracy in childhood provide for better learning in school and higher educational attainment, leading to major social and economic gains for society in the long run. Similarly, providing children with a nurturing environment in early years, with adequate nutrition, hygiene, protection and responsive stimulation, boosts healthy childhood development and delivers positive outcomes.

The period of laying the foundation of all learning and rapid development during early childhood development is _____.

1. 3 to 6 years
2. 0 to 8 years
3. 1 to 2 years
4. 0 to 2 years

Options :

- 485584146313. 1
- 485584146314. 2
- 485584146315. 3
- 485584146316. 4

Question Number : 194 Question Id : 48558436579 Question Type : MCQ Option Shuffling : No Is Question Mandatory : No Calculator : None Response Time : N.A Think Time : N.A Minimum Instruction Time : 0

Correct Marks : 5 Wrong Marks : 1

Question Key Details :

Key	Value
Comprehension	Comp1

اقتباس کو غور سے پڑھیں اور سوال 41 - 45 تک کا جواب دیں:

آنگن واڑی مراکز سب سے عام اور عوامی طور پر دستیاب سہولیت ہے، جو ابتدائی طور پر 1975 میں امیونائزیشن اور ہیلتھ چیک اپ فراہم کرنے کے لیے اور صحت عامہ نظام کو مضبوط کرنے کے لیے تشکیل کیا گیا تھا، بعد میں اضافی غذا، رسمی پری اسکول تعلیم اور دن میں بچوں کی دیکھ بھال فراہم کرنے کے لیے کیا گیا۔ ت۔ ابتدائی بچوں کی نشوونما کے دو اہم عناصر میں تعلیم اور صحت شامل ہیں۔ بچپن کے ابتدائی سال (سال 0 تا 8) تمام سیکھنے کی بنیاد بناتے ہیں اور اس لیے ترقی کا سب سے اہم دور ہوتا ہے۔ تحقیق سے یہ بات سامنے آئی ہے کہ زیادہ علمی صلاحیتیں اور بچپن میں خواندگی اور اعداد کے ساتھ ترقی کی راہ پر گامزن ہونا اسکول میں بہتر سیکھنے اور اعلیٰ تعلیم کے حصول کا باعث بنتا ہے، جس سے طویل مدت میں معاشرے کے لیے بڑے سماجی اور معاشی فوائد حاصل ہوتے ہیں۔ اسی طرح بچوں کی ابتدائی برسوں میں پرورش کا ماحول فراہم کرنا، مناسب غذائیت، حفظان صحت، تحفظ اور جوابی محرک کے ساتھ صحت مند بچپن کی نشوونما کو فروغ دیتا ہے اور مثبت نتائج فراہم کرتا ہے۔

ابتدائی بچپن کی ترقی کے دوران تیز رفتار کی ترقی کی مدت _____ سے ہے۔

1. سال 3-6
2. سال 0-8
3. سال 1 - 2
4. سال 0-2

Options :

485584146313. 1
485584146314. 2
485584146315. 3
485584146316. 4

Question Number : 195 Question Id : 48558436580 Question Type : MCQ Option Shuffling : No Is Question Mandatory : No Calculator : None Response Time : N.A Think Time : N.A Minimum Instruction Time : 0

Correct Marks : 5 Wrong Marks : 1

Question Key Details :

Key	Value
Comprehension	Comp1

Read the passage carefully. Attempt Question

Anganwadi Centers (AWCs) are the most common and publicly available facilities, initially constituted in 1975 to strengthen the public health system by providing immunization and health check-ups, and later to provide supplementary nutrition non-formal pre-school education and day-care.

The two key elements of early childhood development include education and health. A child's early years (0 to 8 years) form the foundation of all learning and are therefore the most extraordinary period of development in a child's life. Research has shown that greater cognitive abilities and being developmentally on track with literacy and numeracy in childhood provide for better learning in school and higher educational attainment, leading to major social and economic gains for society in the long run. Similarly, providing children with a nurturing environment in early years, with adequate nutrition, hygiene, protection and responsive stimulation, boosts healthy childhood development and delivers positive outcomes.

To boost healthy childhood and getting positive outcomes in ECCE, which of the following needs to be provided?

- A. Adequate nutrition
- B. Responsive stimulation
- C. Hygiene
- D. Toys and games
- E. Immunisation

Choose the correct answer from the options given below:

1. A, B and C only
2. A, B and D only
3. B, C and D only
4. C, D and E only

Options :

- 485584146317. 1
- 485584146318. 2
- 485584146319. 3
- 485584146320. 4

Question Number : 195 Question Id : 48558436580 Question Type : MCQ Option Shuffling : No Is Question Mandatory : No Calculator : None Response Time : N.A Think Time : N.A Minimum Instruction Time : 0

Correct Marks : 5 Wrong Marks : 1

Question Key Details :

Key	Value
Comprehension	Comp1

اقتباس کو غور سے پڑھیں اور سوال 41 - 45 تک کا جواب دیں:

آنگن واڑی مراکز سب سے عام اور عوامی طور پر دستیاب سہولیت ہے، جو ابتدائی طور پر 1975 میں امیونائزیشن اور ہیلتھ چیک اپ فراہم کرنے کے لیے اور صحت عامہ نظام کو مضبوط کرنے کے لیے تشکیل کیا گیا تھا، بعد میں اضافی غذا، رسمی پری اسکول تعلیم اور دن میں بچوں کی دیکھ بھال فراہم کرنے کے لیے کیا گیا۔ تہ ابتدائی بچوں کی نشوونما کے دو اہم عناصر میں تعلیم اور صحت شامل ہیں۔ بچپن کے ابتدائی سال (سال 0 تا 8) تمام سیکھنے کی بنیاد بناتے ہیں اور اس لیے ترقی کا سب سے اہم دور ہوتا ہے۔ تحقیق سے یہ بات سامنے آئی ہے کہ زیادہ علمی صلاحیتیں اور بچپن میں خواندگی اور اعداد کے ساتھ ترقی کی راہ پر گامزن ہونا اسکول میں بہتر سیکھنے اور اعلیٰ تعلیم کے حصول کا باعث بنتا ہے، جس سے طویل مدت میں معاشرے کے لیے بڑے سماجی اور معاشی فوائد حاصل ہوتے ہیں۔ اسی طرح بچوں کی ابتدائی برسوں میں پرورش کا ماحول فراہم کرنا، مناسب غذائیت، حفظانِ صحت، تحفظ اور جوابی محرک کے ساتھ صحت مند بچپن کی نشوونما کو فروغ دیتا ہے اور مثبت نتائج فراہم کرتا ہے۔

ECCE میں مثبت نتائج حاصل کرنے کے لیے اور بچوں میں صحت مندی کو بڑھانے کے لیے کن درج ذیل باتوں کا خیال رکھنا ضروری ہے:

A. مناسب غذا

B. سپانسیو سٹمولشن

C. صفائی ستھرائی

D. کھلونے اور گیم

E. آمانیڈشن

1. صرف A, B اور C

2. صرف A, B اور D

3. صرف B, C اور D

4. صرف C, D اور E

Options :

485584146317. 1

485584146318. 2

485584146319. 3

485584146320. 4

Sub-Section Number :

3

Sub-Section Id :

4855842701

Question Shuffling Allowed :

No

Is Section Default? :

null

Question Number : 196 Question Id : 48558436581 Question Type : MCQ Option Shuffling : No Is Question Mandatory :

No Calculator : None Response Time : N.A Think Time : N.A Minimum Instruction Time : 0

Correct Marks : 5 Wrong Marks : 1

Question Key Details :

Key	Value
Comprehension	Comp2

Read the passage carefully. Attempt Question

Consumers not only purchase products but a whole gamut of services like those of banks, other financial institutions, airlines and travel agencies; hospitals and other medical practitioners; public utilities like garbage collection, cleanliness and maintenance of roads, parks, etc; electricity water telephone, post and telegraph; educational institutions and so on.

Consumers face a number of problems with regard to these services like excessive billing, being charged but not delivering the service, gap between promised level of service and service that is delivered, overstating the service attributes and enticing the consumer, making false claims and so on.

Gap between service delivery and external communication is a consumer issue. Consumer expectations are affected by promises made by the service provider in his external communication which may be through brochures, advertisements, personal selling etc. E.g. If a resort hotel brochure shows a beautiful room but the guests arrive and find the room to be cheap and very ordinary. Many a times people make advance bookings based on the brochures or seeing the website or some other advertisements. In such bookings sometimes advance also has to be paid. If the customer does not like the room ambience he may be left with little choice since refunds are not given by many hotels.

Many private educational institutions assure jobs to students after completion of course which eventually does not happen. Which service-related consumer problem is depicted in this example ?

1. Excessive billings
2. Being charged but not delivering the service
3. Making false claims
4. Overstating the service attributes

Options :

- 485584146321. 1
- 485584146322. 2
- 485584146323. 3
- 485584146324. 4

Question Number : 196 Question Id : 48558436581 Question Type : MCQ Option Shuffling : No Is Question Mandatory : No Calculator : None Response Time : N.A Think Time : N.A Minimum Instruction Time : 0

Correct Marks : 5 Wrong Marks : 1

Question Key Details :

Key	Value
Comprehension	Comp2

صارفین نہ صرف مصنوعات خریدتے ہیں بلکہ بینک، دیگر مالیاتی اداروں، ایئر لائنز، ٹریول ایجنسیوں جیسی خدمات کا ایک مکمل پہلو خریدتے ہیں۔ ہسپتال اور دیگر طبی عاملین؛ عوامی سہولیات جیسے کوڑا جمع کرنا، صفائی ستھرائی اور سڑکوں، پارکوں وغیرہ کی دیکھ بھال، بجلی پانی ٹیلی فون، ٹاک اور ٹیلی گراف؛ تعلیمی ادارے وغیرہ۔

صارفین ان خدمات کے متعلق بہت ساری پریشانیوں کا سامنا کرتے ہیں جیسے بل زیادہ آنا، اور خدمات مہیا نہ ہونا، جن خدمات کا ان سے وعدہ کیا گیا تھا وہ مہیا نہ ہونا، خدمات کی خصوصیات کو بڑھا چڑھا کر بتانا اور صارفین کو لہانا، غلط دعوے کر کے وغیرہ۔

خدمات کی فراہمی اور بیرونی مواصلات کے درمیان فرق صارفین کا مسئلہ ہے۔ صارفین کی توقعات خدمات فراہم کرنے والوں کے ذریعے کیے گئے وعدوں سے متاثر ہوتے ہیں، ان کی خارجی مواصلات میں جو بروشرز، اشتہارات اور ذاتی فروختگی کے ذریعے ہوتے ہیں جیسے کسی ریزورٹ ہوٹل کا بروشر خوبصورت روم دکھاتا ہے لیکن جب مہمان آتے ہیں تو وہ روم کو سستا اور معمولی پاتے ہیں۔ بہت مرتبہ لوگ پیشگی بکنگ کرتے ہیں صرف اشتہارات یا ویب سائٹس کو دیکھ کر، اور کبھی کبھی اس طرح کی بکنگ میں پیشگی پیسے بھی دینے پڑتے ہیں۔ اب اگر صارف کو اُس روم کا ماحول پسند نہیں آتا ہے، تو اسے وہ روم چھوڑنا پڑ جاتا ہے اور اس میں پیسے واپس بھی نہیں کیے جاتے ہیں۔

بہت سارے پرائیویٹ ادارے طالب علموں سے ان کے کورس مکمل ہوجانے کے بعد ملازمت کا یقین دلاتے ہیں جو بالآخر ہوتا نہیں ہے۔ کونسی صورت میں خدمات سے متعلق صارفین کے مسائل ظاہر ہوتے ہیں؟

1. بل میں زیادتی
2. چارج کیا جا رہا ہے لیکن خدمات مہیا نہیں کی جاتی ہیں
3. غلط دعوے کیے جانا
4. خدمات کی خصوصیات بڑھا چڑھا کر پیش کرنا

Options :

485584146321. 1
485584146322. 2
485584146323. 3
485584146324. 4

Question Number : 197 Question Id : 48558436582 Question Type : MCQ Option Shuffling : No Is Question Mandatory : No Calculator : None Response Time : N.A Think Time : N.A Minimum Instruction Time : 0

Correct Marks : 5 Wrong Marks : 1

Question Key Details :

Key	Value
Comprehension	Comp2

Read the passage carefully. Attempt Question

Consumers not only purchase products but a whole gamut of services like those of banks, other financial institutions, airlines and travel agencies; hospitals and other medical practitioners; public utilities like garbage collection, cleanliness and maintenance of roads, parks, etc; electricity water telephone, post and telegraph; educational institutions and so on.

Consumers face a number of problems with regard to these services like excessive billing, being charged but not delivering the service, gap between promised level of service and service that is delivered, overstating the service attributes and enticing the consumer, making false claims and so on.

Gap between service delivery and external communication is a consumer issue. Consumer expectations are affected by promises made by the service provider in his external communication which may be through brochures, advertisements, personal selling etc. E.g. If a resort hotel brochure shows a beautiful room but the guests arrive and find the room to be cheap and very ordinary. Many a times people make advance bookings based on the brochures or seeing the website or some other advertisements. In such bookings sometimes advance also has to be paid. If the customer does not like the room ambience he may be left with little choice since refunds are not given by many hotels.

Which of the following is NOT an example of services offered to consumers ?

1. Consumer durables
2. Banking services
3. Airlines
4. Educational institutions

Options :

- 485584146325. 1
- 485584146326. 2
- 485584146327. 3
- 485584146328. 4

Question Number : 197 Question Id : 48558436582 Question Type : MCQ Option Shuffling : No Is Question Mandatory : No Calculator : None Response Time : N.A Think Time : N.A Minimum Instruction Time : 0

Correct Marks : 5 Wrong Marks : 1

Question Key Details :

Key	Value
Comprehension	Comp2

صارفین نہ صرف مصنوعات خریدتے ہیں بلکہ بینک، دیگر مالیاتی اداروں، ایئر لائنز، ٹریول ایجنسیوں جیسی خدمات کا ایک مکمل پہلو خریدتے ہیں۔ ہسپتال اور دیگر طبی عاملین؛ عوامی سہولیات جیسے کوڑا جمع کرنا، صفائی ستھرائی اور سڑکوں، پارکوں وغیرہ کی دیکھ بھال، بجلی پانی ٹیلی فون، ٹاک اور ٹیلی گراف؛ تعلیمی ادارے وغیرہ۔

صارفین ان خدمات کے متعلق بہت ساری پریشانیوں کا سامنا کرتے ہیں جیسے پل زیادہ آنا، اور خدمات مہیا نہ ہونا، جن خدمات کا ان سے وعدہ کیا گیا تھا وہ مہیا نہ ہونا، خدمات کی خصوصیات کو بڑھا چڑھا کر بتانا اور صارفین کو لبھانا، غلط غلط دعوے کر کے وغیرہ۔

خدمات کی فراہمی اور بیرونی مواصلات کے درمیان فرق صارفین کا مسئلہ ہے۔ صارفین کی توقعات خدمات فراہم کرنے والوں کے ذریعے کیے گئے وعدوں سے متاثر ہوتے ہیں، ان کی خارجی مواصلات میں جو بروشرز، اشتہارات اور ذاتی فروختگی کے ذریعے ہوتے ہیں جیسے کسی ریزورٹ ہوٹل کا بروشر خوبصورت روم دکھاتا ہے لیکن جب مہمان آتے ہیں تو وہ روم کو سستا اور معمولی پاتے ہیں۔ بہت مرتبہ لوگ پیشگی بکنگ کرتے ہیں صرف اشتہارات یا ویب سائٹس کو دیکھ کر، اور کبھی کبھی اس طرح کی بکنگ میں پیشگی پیسے بھی دینے پڑتے ہیں۔ اب اگر صارف کو اُس روم کا ماحول پسند نہیں آتا ہے، تو اسے وہ روم چھوڑنا پڑ جاتا ہے اور اس میں پیسے واپس بھی نہیں کیے جاتے ہیں۔

مندرجہ ذیل میں سے کون صارفین کو پیش کیے جانے والی خدمات کی مثال ہے؟

1. صارفین کی مدت
2. بینکنگ سروس
3. ایئر لائنز
4. تعلیمی ادارے

Options :

485584146325. 1
485584146326. 2
485584146327. 3
485584146328. 4

Question Number : 198 Question Id : 48558436583 Question Type : MCQ Option Shuffling : No Is Question Mandatory : No Calculator : None Response Time : N.A Think Time : N.A Minimum Instruction Time : 0

Correct Marks : 5 Wrong Marks : 1

Question Key Details :

Key	Value
Comprehension	Comp2

Read the passage carefully. Attempt Question

Consumers not only purchase products but a whole gamut of services like those of banks, other financial institutions, airlines and travel agencies; hospitals and other medical practitioners; public utilities like garbage collection, cleanliness and maintenance of roads, parks, etc; electricity water telephone, post and telegraph; educational institutions and so on.

Consumers face a number of problems with regard to these services like excessive billing, being charged but not delivering the service, gap between promised level of service and service that is delivered, overstating the service attributes and enticing the consumer, making false claims and so on.

Gap between service delivery and external communication is a consumer issue. Consumer expectations are affected by promises made by the service provider in his external communication which may be through brochures, advertisements, personal selling etc. E.g. If a resort hotel brochure shows a beautiful room but the guests arrive and find the room to be cheap and very ordinary. Many a times people make advance bookings based on the brochures or seeing the website or some other advertisements. In such bookings sometimes advance also has to be paid. If the customer does not like the room ambience he may be left with little choice since refunds are not given by many hotels.

Many a times, we are required to pay a basic telephone rental charge irrespective of it being out of order. Which service related to consumer problem is depicted in this example?

1. Excessive billing
2. Being charged but not delivering the service
3. Making false claims
4. Overstating the service attributes

Options :

- 485584146329. 1
- 485584146330. 2
- 485584146331. 3
- 485584146332. 4

Question Number : 198 Question Id : 48558436583 Question Type : MCQ Option Shuffling : No Is Question Mandatory : No Calculator : None Response Time : N.A Think Time : N.A Minimum Instruction Time : 0

Correct Marks : 5 Wrong Marks : 1

Question Key Details :

Key	Value
Comprehension	Comp2

صارفین نہ صرف مصنوعات خریدتے ہیں بلکہ بینک، دیگر مالیاتی اداروں، ایئر لائنز، ٹریول ایجنسیوں جیسی خدمات کا ایک مکمل پہلو خریدتے ہیں۔ ہسپتال اور دیگر طبی عاملین؛ عوامی سہولیات جیسے کوڑا جمع کرنا، صفائی ستھرائی اور سڑکوں، پارکوں وغیرہ کی دیکھ بھال، بجلی پانی ٹیلی فون، ٹاک اور ٹیلی گراف؛ تعلیمی ادارے وغیرہ۔

صارفین ان خدمات کے متعلق بہت ساری پریشانیوں کا سامنا کرتے ہیں جیسے بل زیادہ آنا، اور خدمات مہیا نہ ہونا، جن خدمات کا ان سے وعدہ کیا گیا تھا وہ مہیا نہ ہونا، خدمات کی خصوصیات کو بڑھا چڑھا کر بتانا اور صارفین کو لہانا، غلط دعوے کر کے وغیرہ۔

خدمات کی فراہمی اور بیرونی مواصلات کے درمیان فرق صارفین کا مسئلہ ہے۔ صارفین کی توقعات خدمات فراہم کرنے والوں کے ذریعے کیے گئے وعدوں سے متاثر ہوتے ہیں، ان کی خارجی مواصلات میں جو بروشرز، اشتہارات اور ذاتی فروختگی کے ذریعے ہوتے ہیں جیسے کسی ریزورٹ ہوٹل کا بروشر خوبصورت روم دکھاتا ہے لیکن جب مہمان آتے ہیں تو وہ روم کو سستا اور معمولی پاتے ہیں۔ بہت مرتبہ لوگ پیشگی بکنگ کرتے ہیں صرف اشتہارات یا ویب سائٹس کو دیکھ کر، اور کبھی کبھی اس طرح کی بکنگ میں پیشگی پیسے بھی دینے پڑتے ہیں۔ اب اگر صارف کو اُس روم کا ماحول پسند نہیں آتا ہے، تو اسے وہ روم چھوڑنا پڑ جاتا ہے اور اس میں پیسے واپس بھی نہیں کیے جاتے ہیں۔

بسا اوقات ہمیں بنیادی ٹیلی فون کے چارج دینے پڑتے ہیں اگر چہ وہ چل نہیں رہے ہوں۔ یہ مثال صارفین کو پیش کیے جانے والی خدمات میں کسی زمرے میں آئے گی؟

1. بل میں زیادتی
2. خدمات مہیا نہ ہو پانے کے باوجود چارج کیا جانا
3. غلط دعوے کرنا
4. خدمات کی خصوصیات کو بڑھا چڑھا کر پیش کرنا

Options :

485584146329. 1
485584146330. 2
485584146331. 3
485584146332. 4

Question Number : 199 Question Id : 48558436584 Question Type : MCQ Option Shuffling : No Is Question Mandatory : No Calculator : None Response Time : N.A Think Time : N.A Minimum Instruction Time : 0

Correct Marks : 5 Wrong Marks : 1

Question Key Details :

Key	Value
Comprehension	Comp2

Read the passage carefully. Attempt Question

Consumers not only purchase products but a whole gamut of services like those of banks, other financial institutions, airlines and travel agencies; hospitals and other medical practitioners; public utilities like garbage collection, cleanliness and maintenance of roads, parks, etc; electricity water telephone, post and telegraph; educational institutions and so on.

Consumers face a number of problems with regard to these services like excessive billing, being charged but not delivering the service, gap between promised level of service and service that is delivered, overstating the service attributes and enticing the consumer, making false claims and so on.

Gap between service delivery and external communication is a consumer issue. Consumer expectations are affected by promises made by the service provider in his external communication which may be through brochures, advertisements, personal selling etc. E.g. If a resort hotel brochure shows a beautiful room but the guests arrive and find the room to be cheap and very ordinary. Many a times people make advance bookings based on the brochures or seeing the website or some other advertisements. In such bookings sometimes advance also has to be paid. If the customer does not like the room ambience he may be left with little choice since refunds are not given by many hotels.

Which of the following is NOT an example of aid used by service providers for external communication ?

- 1. Brochures
- 2. Board meeting
- 3. Advertisements
- 4. Personal selling

Options :

- 485584146333. 1
- 485584146334. 2
- 485584146335. 3
- 485584146336. 4

Question Number : 199 Question Id : 48558436584 Question Type : MCQ Option Shuffling : No Is Question Mandatory : No Calculator : None Response Time : N.A Think Time : N.A Minimum Instruction Time : 0

Correct Marks : 5 Wrong Marks : 1

Question Key Details :

Key	Value
Comprehension	Comp2

صارفین نہ صرف مصنوعات خریدتے ہیں بلکہ بینک، دیگر مالیاتی اداروں، ایئر لائنز، ٹریول ایجنسیوں جیسی خدمات کا ایک مکمل پہلو خریدتے ہیں۔ ہسپتال اور دیگر طبی عاملین؛ عوامی سہولیات جیسے کوڑا جمع کرنا، صفائی ستھرائی اور سڑکوں، پارکوں وغیرہ کی دیکھ بھال، بجلی پانی ٹیلی فون، ٹاک اور ٹیلی گراف؛ تعلیمی ادارے وغیرہ۔

صارفین ان خدمات کے متعلق بہت ساری پریشانیوں کا سامنا کرتے ہیں جیسے ہل زیادہ آنا، اور خدمات مہیا نہ ہونا، جن خدمات کا ان سے وعدہ کیا گیا تھا وہ مہیا نہ ہونا، خدمات کی خصوصیات کو بڑھا چڑھا کر بتانا اور صارفین کو لبھانا، غلط دعوے کر کے وغیرہ۔

خدمات کی فراہمی اور بیرونی مواصلات کے درمیان فرق صارفین کا مسئلہ ہے۔ صارفین کی توقعات خدمات فراہم کرنے والوں کے ذریعے کیے گئے وعدوں سے متاثر ہوتے ہیں، ان کی خارجی مواصلات میں جو بروشرز، اشتہارات اور ذاتی فروختگی کے ذریعے ہوتے ہیں جیسے کسی ریزورٹ ہوٹل کا بروشر خوبصورت روم دکھاتا ہے لیکن جب مہمان آتے ہیں تو وہ روم کو سستا اور معمولی پاتے ہیں۔ بہت مرتبہ لوگ پیشگی بکنگ کرتے ہیں صرف اشتہارات یا ویب سائٹس کو دیکھ کر، اور کبھی کبھی اس طرح کی بکنگ میں پیشگی پیسے بھی دینے پڑتے ہیں۔ اب اگر صارف کو اُس روم کا ماحول پسند نہیں آتا ہے، تو اسے وہ روم چھوڑنا پڑ جاتا ہے اور اس میں پیسے واپس بھی نہیں کیے جاتے ہیں۔

مندرجہ ذیل میں کون سی تشہیر کی مثال ہے جسے خارجی مواصلات کیلئے خدمات فراہم کرنے والے کے ذریعہ استعمال کیا جاتا ہے۔

1. بروشر
2. بورڈ میٹنگ
3. تشہیر
4. ذاتی فروخت

Options :

485584146333. 1
485584146334. 2
485584146335. 3
485584146336. 4

Question Number : 200 Question Id : 48558436585 Question Type : MCQ Option Shuffling : No Is Question Mandatory : No Calculator : None Response Time : N.A Think Time : N.A Minimum Instruction Time : 0

Correct Marks : 5 Wrong Marks : 1

Question Key Details :

Key	Value
Comprehension	Comp2

Read the passage carefully. Attempt Question

Consumers not only purchase products but a whole gamut of services like those of banks, other financial institutions, airlines and travel agencies; hospitals and other medical practitioners; public utilities like garbage collection, cleanliness and maintenance of roads, parks, etc; electricity water telephone, post and telegraph; educational institutions and so on.

Consumers face a number of problems with regard to these services like excessive billing, being charged but not delivering the service, gap between promised level of service and service that is delivered, overstating the service attributes and enticing the consumer, making false claims and so on.

Gap between service delivery and external communication is a consumer issue. Consumer expectations are affected by promises made by the service provider in his external communication which may be through brochures, advertisements, personal selling etc. E.g. If a resort hotel brochure shows a beautiful room but the guests arrive and find the room to be cheap and very ordinary. Many a times people make advance bookings based on the brochures or seeing the website or some other advertisements. In such bookings sometimes advance also has to be paid. If the customer does not like the room ambience he may be left with little choice since refunds are not given by many hotels.

A family had gone on vacation for a month but received electricity bill for the same month running in several thousands. Which service related consumer problems is depicted in this case?

1. Excessive billing
2. Being charged but not delivering the service
3. Making false claims
4. Overstating the service attributes

Options :

- 485584146337. 1
- 485584146338. 2
- 485584146339. 3
- 485584146340. 4

Question Number : 200 Question Id : 48558436585 Question Type : MCQ Option Shuffling : No Is Question Mandatory : No Calculator : None Response Time : N.A Think Time : N.A Minimum Instruction Time : 0

Correct Marks : 5 Wrong Marks : 1

Question Key Details :

Key	Value
Comprehension	Comp2

صارفین نہ صرف مصنوعات خریدتے ہیں بلکہ بینک، دیگر مالیاتی اداروں، ایئر لائنز، ٹریول ایجنسیوں جیسی خدمات کا ایک مکمل پہلو خریدتے ہیں۔ ہسپتال اور دیگر طبی عاملین؛ عوامی سہولیات جیسے کوڑا جمع کرنا، صفائی ستھرائی اور سڑکوں، پارکوں وغیرہ کی دیکھ بھال، بجلی پانی ٹیلی فون، ٹاک اور ٹیلی گراف؛ تعلیمی ادارے وغیرہ۔

صارفین ان خدمات کے متعلق بہت ساری پریشانیوں کا سامنا کرتے ہیں جیسے بل زیادہ آنا، اور خدمات مہیا نہ ہونا، جن خدمات کا ان سے وعدہ کیا گیا تھا وہ مہیا نہ ہونا، خدمات کی خصوصیات کو بڑھا چڑھا کر بتانا اور صارفین کو لہانا، غلط دعوے کر کے وغیرہ۔

خدمات کی فراہمی اور بیرونی مواصلات کے درمیان فرق صارفین کا مسئلہ ہے۔ صارفین کی توقعات خدمات فراہم کرنے والوں کے ذریعے کیے گئے وعدوں سے متاثر ہوتے ہیں، ان کی خارجی مواصلات میں جو بروشرز، اشتہارات اور ذاتی فروختگی کے ذریعے ہوتے ہیں جیسے کسی ریزورٹ ہوٹل کا بروشر خوبصورت روم دکھاتا ہے لیکن جب مہمان آتے ہیں تو وہ روم کو سستا اور معمولی پاتے ہیں۔ بہت مرتبہ لوگ پیشگی بکنگ کرتے ہیں صرف اشتہارات یا ویب سائٹس کو دیکھ کر، اور کبھی کبھی اس طرح کی بکنگ میں پیشگی پیسے بھی دینے پڑتے ہیں۔ اب اگر صارف کو اُس روم کا ماحول پسند نہیں آتا ہے، تو اسے وہ روم چھوڑنا پڑ جاتا ہے اور اس میں پیسے واپس بھی نہیں کیے جاتے ہیں۔

ایک خاندان کے لوگ ایک مہینے کے لیے چھٹیوں پر جاتے ہیں، لیکن انہیں بالکل وہی مہینے کا بجلی بل ملتا ہے جو ہزاروں میں ہوتے ہیں۔ یہ مثال صارفین کو پیش کیے جانے والی کون سی خدمات کے زمرے میں آتی ہے؟

1. بل میں زیادتی
2. خدمات مہیا نہیں کیے جانے کے باوجود چارج کیا جانا
3. غلط دعویٰ کرنا
4. خدمات کی خصوصیات کو بڑھا چڑھا کر پیش کرنا

Options :

485584146337. 1
485584146338. 2
485584146339. 3
485584146340. 4

Teaching Aptitude

Group Number :	6
Group Id :	485584826
Group Maximum Duration :	45
Group Minimum Duration :	45
Show Attended Group? :	No
Edit Attended Group? :	No
Break time :	0
Group Marks :	200
Is this Group for Examiner? :	No
Examiner permission :	Cant View
Show Progress Bar? :	No

Teaching Aptitude

Section Id :	485584950
Section Number :	1
Section type :	Online

Mandatory or Optional :	Mandatory
Number of Questions :	50
Number of Questions to be attempted :	40
Section Marks :	200
Enable Mark as Answered Mark for Review and Clear Response :	Yes
Maximum Instruction Time :	0
Sub-Section Number :	1
Sub-Section Id :	4855842702
Question Shuffling Allowed :	Yes
Is Section Default? :	null

Question Number : 201 Question Id : 48558436586 Question Type : MCQ Option Shuffling : No Is Question Mandatory : No Calculator : None Response Time : N.A Think Time : N.A Minimum Instruction Time : 0

Correct Marks : 5 Wrong Marks : 1

Question Key Details :

Key	Value
Comprehension	MCQ

Match List I with List II

LIST I Dance		LIST II Artists	
A.	Bharatnatyam	I.	Savita Mehta
B.	Odissi	II.	Sitara Devi
C.	Kathak	III.	Yamini Krishnamurthy
D.	Manipuri	IV.	Sanjukta Panigrahi

Choose the correct answer from the options given below:

1. A-III, B-IV, C-II, D-I
2. A-III, B-II, C-IV, D-I
3. A-II, B-IV, C-III, D-I
4. A-II, B-I, C-IV, D-III

Options :

485584146341. 1
485584146342. 2
485584146343. 3
485584146344. 4

Question Number : 201 Question Id : 48558436586 Question Type : MCQ Option Shuffling : No Is Question Mandatory : No Calculator : None Response Time : N.A Think Time : N.A Minimum Instruction Time : 0

Correct Marks : 5 Wrong Marks : 1

Question Key Details :

Key	Value
Comprehension	MCQ

فہرست اول (I) کو فہرست ثانی (II) سے ملائیں۔

فہرست ثانی II فن کار		فہرست اول I ڈانسن	
.I	سوینا مہتہ	.A	بہرت ناٹیم
.II	سنارہ دیوی	.B	اوڈیسی
.III	یامنی کرشنا مورٹی	.C	کتھک
.IV	سنجکتا پانی گراہی	.D	منی پوری

مندرجہ ذیل انتخابات میں سے درست جواب کی نشان دہی کریں۔

1. A-III, B-IV, C-II, D-I
2. A-III, B-II, C-IV, D-I
3. A-II, B-IV, C-III, D-I
4. A-II, B-I, C-IV, D-III

Options :

485584146341. 1
485584146342. 2
485584146343. 3
485584146344. 4

Question Number : 202 Question Id : 48558436587 Question Type : MCQ Option Shuffling : No Is Question Mandatory : No Calculator : None Response Time : N.A Think Time : N.A Minimum Instruction Time : 0

Correct Marks : 5 Wrong Marks : 1

Question Key Details :

Key	Value
Comprehension	MCQ

DD Gyan Darshan is an educational media initiative of Ministry of Education in collaboration with-

- A. Ministry of Information and Broadcasting
- B. Prasar Bharti
- C. ISRO
- D. IGNOU
- E. Ministry of Information and Communication Technology

Choose the correct answer from the options given below:

1. A, B and C only
2. A, C and D only
3. A, B, C and D only
4. B, C and E only

Options :

- 485584146345. 1
- 485584146346. 2
- 485584146347. 3
- 485584146348. 4

Question Number : 202 Question Id : 48558436587 Question Type : MCQ Option Shuffling : No Is Question Mandatory : No Calculator : None Response Time : N.A Think Time : N.A Minimum Instruction Time : 0

Correct Marks : 5 Wrong Marks : 1

Question Key Details :

Key	Value
Comprehension	MCQ

محکمہ تعلیم کا ڈی ڈی گیان درشن (DD Gyan Darshan) کا میڈیا سے متعلق ایک تعلیمی اقدام ہے۔ اس کا اشتراک کس کے ساتھ ہے؟

- A. محکمہ اطلاعات و نشریات (Ministry of Information and Broadcasting)
- B. پرسار بھارتی (Prasar Bharti)
- C. اِسرو (ISRO)
- D. اِگنو (IGNOU)
- E. محکمہ اطلاعات و مواصلات (Ministry of Information and Communication Technology)

مندرجہ ذیل میں سے درست انتخابات کی نشان دہی کریں۔

1. A, B and C only
2. A, C and D only
3. A, B, C and D only
4. B, C and E only

Options :

- 485584146345. 1
- 485584146346. 2
- 485584146347. 3
- 485584146348. 4

Question Number : 203 Question Id : 48558436588 Question Type : MCQ Option Shuffling : No Is Question Mandatory : No Calculator : None Response Time : N.A Think Time : N.A Minimum Instruction Time : 0

Correct Marks : 5 Wrong Marks : 1

Question Key Details :

Key	Value
Comprehension	MCQ

Match List I with List II

LIST I		LIST II	
A.	Thappad	I.	Women's bodies and commercial gains
B.	Mimi	II.	Quality education for all
C.	Black	III.	Domestic violence and dignity
D.	Hichki	IV.	Right to a dignified life and knowledge

Choose the correct answer from the options given below:

1. A-III, B-I, C-IV, D-II
2. A-I, B-III, C-IV, D-II
3. A-III, B-I, C-II, D-IV
4. A-III, B-II, C-IV, D-I

Options :

- 485584146349. 1
- 485584146350. 2
- 485584146351. 3
- 485584146352. 4

Question Number : 203 Question Id : 48558436588 Question Type : MCQ Option Shuffling : No Is Question Mandatory : No Calculator : None Response Time : N.A Think Time : N.A Minimum Instruction Time : 0

Correct Marks : 5 Wrong Marks : 1

Question Key Details :

Key	Value
Comprehension	MCQ

فہرست اول (I) کو فہرست ثانی (II) سے ملائیں۔

فہرست ثانی (II)		فہرست اول (I)	
عورتوں کا جسمانی استحصال اور کمزور تیل فائدے	.I	.A	ٹھپڑ (Thappad)
ہر ایک کے لیے معیاری تعلیم	.II	.B	میمی (Mimi)
گھریلو تشدد اور وقار	.III	.C	بلیک (Black)
باوقار زندگی اور جاننے کا حق	.IV	.D	بجکی (Hichki)

مندرجہ ذیل انتخابات میں سے درست جواب کی نشان دہی کریں۔

1. A-III, B-I, C-IV, D-II
2. A-I, B-III, C-IV, D-II
3. A-III, B-I, C-II, D-IV
4. A-III, B-II, C-IV, D-I

Options :

485584146349. 1
485584146350. 2
485584146351. 3
485584146352. 4

Question Number : 204 Question Id : 48558436589 Question Type : MCQ Option Shuffling : No Is Question Mandatory : No Calculator : None Response Time : N.A Think Time : N.A Minimum Instruction Time : 0

Correct Marks : 5 Wrong Marks : 1

Question Key Details :

Key	Value
Comprehension	MCQ

In the story 'Idgah' the protagonist Hamid buys a _____ for _____ from the fair.

1. pair of tongs, his grandmother
2. pair of tongs, his mother
3. clay doll, himself
4. clay doll, his grandmother

Options :

485584146353. 1

485584146354. 2

485584146355. 3

485584146356. 4

Question Number : 204 Question Id : 48558436589 Question Type : MCQ Option Shuffling : No Is Question Mandatory : No Calculator : None Response Time : N.A Think Time : N.A Minimum Instruction Time : 0

Correct Marks : 5 Wrong Marks : 1

Question Key Details :

Key	Value
Comprehension	MCQ

افسانہ ”عیدگاہ“ کا مرکزی کردار حامد میلہ سے خریدنا _____ کے لیے

1. ایک عدد گھوڑا گاڑی، اپنی نانی/دادی کے لیے
2. ایک عدد گھوڑا گاڑی، اپنی ماں کے لیے
3. مٹی کی گڑیا، خود کے لیے
4. مٹی کی گڑیا، اپنی نانی/دادی کے لیے

Options :

485584146353. 1

485584146354. 2

485584146355. 3

485584146356. 4

Question Number : 205 Question Id : 48558436590 Question Type : MCQ Option Shuffling : No Is Question Mandatory : No Calculator : None Response Time : N.A Think Time : N.A Minimum Instruction Time : 0

Correct Marks : 5 Wrong Marks : 1

Question Key Details :

Key	Value
Comprehension	MCQ

Who is the first female Indian scientist to receive a PhD degree in a scientific discipline?

1. Kamala Sohonie
2. Janaki Ammal
3. Anandibai Gopalrao Joshi
4. Asima Chaterjee

Options :

485584146357. 1

485584146358. 2

485584146359. 3

485584146360. 4

Question Number : 205 Question Id : 48558436590 Question Type : MCQ Option Shuffling : No Is Question Mandatory : No Calculator : None Response Time : N.A Think Time : N.A Minimum Instruction Time : 0

Correct Marks : 5 Wrong Marks : 1

Question Key Details :

Key	Value
Comprehension	MCQ

پہلی ہندوستانی سائنس دان عورت جس نے سائنسی شعبہ میں پی ایچ ڈی حاصل کی۔

1. کملا سوہانی
2. جانکی امل
3. آنندی بائی گوپال داؤ جوئی
4. اسیما چٹرجی

Options :

485584146357. 1
485584146358. 2
485584146359. 3
485584146360. 4

Question Number : 206 Question Id : 48558436591 Question Type : MCQ Option Shuffling : No Is Question Mandatory : No Calculator : None Response Time : N.A Think Time : N.A Minimum Instruction Time : 0

Correct Marks : 5 Wrong Marks : 1

Question Key Details :

Key	Value
Comprehension	MCQ

In the film, 'Chak De India', which of the following themes was not addressed?

1. National integration
2. Child labour
3. Women Empowerment
4. Religious Harmony

Options :

485584146361. 1
485584146362. 2
485584146363. 3
485584146364. 4

Question Number : 206 Question Id : 48558436591 Question Type : MCQ Option Shuffling : No Is Question Mandatory : No Calculator : None Response Time : N.A Think Time : N.A Minimum Instruction Time : 0

Correct Marks : 5 Wrong Marks : 1

Question Key Details :

Key	Value
Comprehension	MCQ

فلم ”چک دے انڈیا“ میں مندرجہ ذیل میں کس ٹھیم کو بیان نہیں کیا گیا ہے؟

1. قومی یکجہتی
2. بچہ مزدوری
3. عورتوں کو باختیار بنانا
4. مذہبی ہم آہنگی

Options :

485584146361. 1
485584146362. 2
485584146363. 3
485584146364. 4

Question Number : 207 Question Id : 48558436592 Question Type : MCQ Option Shuffling : No Is Question Mandatory : No Calculator : None Response Time : N.A Think Time : N.A Minimum Instruction Time : 0

Correct Marks : 5 Wrong Marks : 1

Question Key Details :

Key	Value
Comprehension	MCQ

The stories by Premchand primarily deal with:

- A. Challenges faced by children
- B. issues related to women
- C. struggles of the professional class
- D. struggles of the rural poor
- E. the character of villages in medieval India

Choose the most appropriate answer from the options given below:

1. B, C and E only
2. D, A and E only
3. C, D and A only
4. A, B and D only

Options :

485584146365. 1
485584146366. 2
485584146367. 3
485584146368. 4

Question Number : 207 Question Id : 48558436592 Question Type : MCQ Option Shuffling : No Is Question Mandatory : No Calculator : None Response Time : N.A Think Time : N.A Minimum Instruction Time : 0

Correct Marks : 5 Wrong Marks : 1

Question Key Details :

Key	Value
Comprehension	MCQ

پریم چند کے افسانے عام طور سے بات کرتے ہیں

- A. بچوں کے مسائل کے بارے میں۔
B. عورتوں کے مسائل کے بارے میں۔
C. پیشہ وارانہ جماعت کے جدوجہد کے بارے میں۔
D. دیہی غرباء کی جدوجہد کے بارے میں۔
E. ہندوستانی قرون وسطی کے گاؤں دیہات کے کردار کے بارے میں۔

مندرجہ ذیل انتخابات میں سے سب سے زیادہ مناسب جواب کی نشان دہی کریں۔

1. B, C and E only
2. D, A and E only
3. C, D and A only
4. A, B and D only

Options :

485584146365. 1
485584146366. 2
485584146367. 3
485584146368. 4

Question Number : 208 Question Id : 48558436593 Question Type : MCQ Option Shuffling : No Is Question Mandatory : No Calculator : None Response Time : N.A Think Time : N.A Minimum Instruction Time : 0

Correct Marks : 5 Wrong Marks : 1

Question Key Details :

Key	Value
Comprehension	MCQ

The central theme of the Hindi film, 'Dangal' is:

1. Urban-rural social divide in the state of Haryana
2. Women in a male- dominated sport
3. Relationship between siblings
4. Mother - daughter relationship

Options :

485584146369. 1
485584146370. 2
485584146371. 3
485584146372. 4

Question Number : 208 Question Id : 48558436593 Question Type : MCQ Option Shuffling : No Is Question Mandatory : No Calculator : None Response Time : N.A Think Time : N.A Minimum Instruction Time : 0

Correct Marks : 5 Wrong Marks : 1

Question Key Details :

Key	Value
Comprehension	MCQ

بندی فلم "دنگل" (Dangal) کا مرکزی ٹہیم ہے:

1. صوبہ ہریانہ میں شہری دیہاتی تفریق
2. مرد اساس کھیل میں عورت
3. بھائی بہنوں کے درمیان تعلقات
4. ماں بیٹی کے تعلقات

Options :

485584146369. 1
485584146370. 2
485584146371. 3
485584146372. 4

Question Number : 209 Question Id : 48558436594 Question Type : MCQ Option Shuffling : No Is Question Mandatory : No Calculator : None Response Time : N.A Think Time : N.A Minimum Instruction Time : 0

Correct Marks : 5 Wrong Marks : 1

Question Key Details :

Key	Value
Comprehension	MCQ

Tagore's alternate school 'Shantiniketan' did **NOT** promote:

1. Open classrooms
2. Simplicity of the learning process
3. Teaching in the mother tongue
4. Discipline in children

Options :

485584146373. 1
485584146374. 2
485584146375. 3
485584146376. 4

Question Number : 209 Question Id : 48558436594 Question Type : MCQ Option Shuffling : No Is Question Mandatory : No Calculator : None Response Time : N.A Think Time : N.A Minimum Instruction Time : 0

Correct Marks : 5 Wrong Marks : 1

Question Key Details :

Key	Value
Comprehension	MCQ

ٹیگور کے اسکول ’’شانتی نکیتن‘‘ نے کس چیز کو بڑھاوا نہیں دیا؟

1. کھلے ہوئے کلاس روم کو
2. آسان سیکھنے کے عمل
3. مادری زبان میں تعلیم کو
4. بچوں میں نظم و نسق کو

Options :

485584146373. 1
485584146374. 2
485584146375. 3
485584146376. 4

Question Number : 210 Question Id : 48558436595 Question Type : MCQ Option Shuffling : No Is Question Mandatory : No Calculator : None Response Time : N.A Think Time : N.A Minimum Instruction Time : 0

Correct Marks : 5 Wrong Marks : 1

Question Key Details :

Key	Value
Comprehension	MCQ

Which of the following is not a Children's novel?

1. Ahimsa
2. Charlie and the Chocolate Factory
3. A Thousand Splendid Suns
4. Wonder

Options :

485584146377. 1
485584146378. 2
485584146379. 3
485584146380. 4

Question Number : 210 Question Id : 48558436595 Question Type : MCQ Option Shuffling : No Is Question Mandatory : No Calculator : None Response Time : N.A Think Time : N.A Minimum Instruction Time : 0

Correct Marks : 5 Wrong Marks : 1

Question Key Details :

Key	Value
Comprehension	MCQ

مندرجہ ذیل میں کون بچوں کا ناول نہیں ہے؟

1. (Ahimsa) ابنسا
2. (Charlie and the Chocolate Factory) چارلی اینڈ دی چاکلیٹ فیکٹری
3. (A Thousand Splendid Suns) آتھاؤ سینڈ اسپلینڈڈ سنس
4. (Wonder) ونڈر

Options :

485584146377. 1
485584146378. 2
485584146379. 3
485584146380. 4

Question Number : 211 Question Id : 48558436596 Question Type : MCQ Option Shuffling : No Is Question Mandatory : No Calculator : None Response Time : N.A Think Time : N.A Minimum Instruction Time : 0

Correct Marks : 5 Wrong Marks : 1

Question Key Details :

Key	Value
Comprehension	MCQ

Which among the following are 'Pros' of 5G Technology?

- A. Greater Transmission Speed
- B. Overcrowded Radio frequency
- C. Increased connectivity
- D. Wider Coverage
- E. High Energy consumption

Choose the correct answer from the options given below:

1. B, C and E only
2. A, C and D only
3. B, C and D only
4. A, C and E only

Options :

485584146381. 1
485584146382. 2
485584146383. 3
485584146384. 4

Question Number : 211 Question Id : 48558436596 Question Type : MCQ Option Shuffling : No Is Question Mandatory : No Calculator : None Response Time : N.A Think Time : N.A Minimum Instruction Time : 0

Correct Marks : 5 Wrong Marks : 1

Question Key Details :

Key	Value
Comprehension	MCQ

مندرجہ ذیل میں فائبر جی ٹیکنالوجی (5G Technology) کے فوائد ہیں:

- A. انتہائی تیز رفتار ترسیل
- B. کثیر ازدحامی ریڈیو فریکوینسی
- C. بڑھا ہوا ربط و تعلق
- D. وسیع پیمانے پر کوریج
- E. زیادہ توانائی کی کھپت

مندرجہ ذیل انتخابات میں سے درست جواب کی نشان دہی کریں۔

1. B, C and E only
2. A, C and D only
3. B, C and D only
4. A, C and E only

Options :

- 485584146381. 1
- 485584146382. 2
- 485584146383. 3
- 485584146384. 4

Question Number : 212 Question Id : 48558436597 Question Type : MCQ Option Shuffling : No Is Question Mandatory : No Calculator : None Response Time : N.A Think Time : N.A Minimum Instruction Time : 0

Correct Marks : 5 Wrong Marks : 1

Question Key Details :

Key	Value
Comprehension	MCQ

The Deep web on internet which is not accessible by the regular search engines like Google Bing is known as:

1. Black web
2. Brown web
3. Dirty web
4. Dark web

Options :

- 485584146385. 1
- 485584146386. 2
- 485584146387. 3
- 485584146388. 4

Question Number : 212 Question Id : 48558436597 Question Type : MCQ Option Shuffling : No Is Question Mandatory : No Calculator : None Response Time : N.A Think Time : N.A Minimum Instruction Time : 0

Correct Marks : 5 Wrong Marks : 1

Question Key Details :

Key	Value
Comprehension	MCQ

انٹرنیٹ پر ڈیپ ویب (The Deep Web) جہاں تک عام سرچ انجن مثلاً گوگل اور بینگ (Bing) وغیرہ کی رسائی نہیں ہوتی ہے اسے جانا جاتا ہے

1. بلیک ویب (Black web)
2. براؤن ویب (Brown web)
3. ڈرٹی ویب (Dirty web)
4. ڈارک ویب (Dark web)

Options :

485584146385. 1
485584146386. 2
485584146387. 3
485584146388. 4

Question Number : 213 Question Id : 48558436598 Question Type : MCQ Option Shuffling : No Is Question Mandatory : No Calculator : None Response Time : N.A Think Time : N.A Minimum Instruction Time : 0

Correct Marks : 5 Wrong Marks : 1

Question Key Details :

Key	Value
Comprehension	MCQ

In order to foster scientific temper through the means of exciting educational experiences, a teacher can take her students to a:

1. Museum
2. Music program
3. Planetarium
4. Art gallery

Options :

485584146389. 1
485584146390. 2
485584146391. 3
485584146392. 4

Question Number : 213 Question Id : 48558436598 Question Type : MCQ Option Shuffling : No Is Question Mandatory : No Calculator : None Response Time : N.A Think Time : N.A Minimum Instruction Time : 0

Correct Marks : 5 Wrong Marks : 1

Question Key Details :

Key	Value
Comprehension	MCQ

شوق سے لبریز تعلیمی تجربات کے ذریعہ سائنسی مزاج پیدا کرنے کیلئے ایک استاد اپنے بچے کو لے جا سکتا ہے:

1. عجائب خانہ
2. موسیقی پروگرام
3. نظام سیارات کا نمونہ گھر
4. آرٹ گیلری

Options :

485584146389. 1
485584146390. 2
485584146391. 3
485584146392. 4

Question Number : 214 Question Id : 48558436599 Question Type : MCQ Option Shuffling : No Is Question Mandatory : No Calculator : None Response Time : N.A Think Time : N.A Minimum Instruction Time : 0

Correct Marks : 5 Wrong Marks : 1

Question Key Details :

Key	Value
Comprehension	MCQ

Jantar Mantar is an assembly of stone-built astronomical instruments, designed to be used with naked eyes. A visit to Jantar Mantar can help students to learn how _____.

1. astronomy was a leisure activity of people in the past.
2. astronomy was practised in buildings made with red stones.
3. people measured time when there were no standard instruments to measure the passing of time.
4. people measured time in those civilizations in which stones were used to build everything.

Options :

485584146393. 1
485584146394. 2
485584146395. 3
485584146396. 4

Question Number : 214 Question Id : 48558436599 Question Type : MCQ Option Shuffling : No Is Question Mandatory : No Calculator : None Response Time : N.A Think Time : N.A Minimum Instruction Time : 0

Correct Marks : 5 Wrong Marks : 1

Question Key Details :

Key	Value
Comprehension	MCQ

جنٹر منتر جمع شدہ فلکیاتی آلات پر مبنی پتھر کی ایک عمارت ہے جہاں آپ فلکیات کا کھلی آنکھوں سے مشاہدہ کر سکتے ہیں۔ بچوں کا جنٹر منتر جانا اُن کے سیکھنے کے عمل میں مدد کر سکتا ہے اور کیسے؟

1. فلکیات ماضی میں لوگوں کے لیے تفریح طبع کا سامان تھا۔
2. لال پتھر کی بنی عمارات میں فلکیات کا مشاہدہ کیا جاتا تھا۔
3. لوگ ایسے زمانے میں وقت کی پیمائش کرتے تھے جب اس کی پیمائش کا کوئی معیاری آلہ موجود نہ تھا۔
4. لوگ اس تہذیب میں وقت کی پیمائش کرتے تھے جہاں ہر چیز بنانے کے لیے پتھر کا استعمال ہوتا تھا۔

Options :

485584146393. 1
485584146394. 2
485584146395. 3
485584146396. 4

Question Number : 215 Question Id : 48558436600 Question Type : MCQ Option Shuffling : No Is Question Mandatory : No Calculator : None Response Time : N.A Think Time : N.A Minimum Instruction Time : 0

Correct Marks : 5 Wrong Marks : 1

Question Key Details :

Key	Value
Comprehension	MCQ

The first country to have entered the Mars orbit in its first attempt is:

1. USA
2. China
3. India
4. Russia

Options :

485584146397. 1
485584146398. 2
485584146399. 3
485584146400. 4

Question Number : 215 Question Id : 48558436600 Question Type : MCQ Option Shuffling : No Is Question Mandatory : No Calculator : None Response Time : N.A Think Time : N.A Minimum Instruction Time : 0

Correct Marks : 5 Wrong Marks : 1

Question Key Details :

Key	Value
Comprehension	MCQ

پہلا ملک جو اپنی پہلی بی کوشش میں مریخ میں داخل ہو گیا

1. (USA) امریکہ
2. (China) چین
3. (India) ہندوستان
4. (Russia) روس

Options :

485584146397. 1
485584146398. 2
485584146399. 3
485584146400. 4

Question Number : 216 Question Id : 48558436601 Question Type : MCQ Option Shuffling : No Is Question Mandatory : No Calculator : None Response Time : N.A Think Time : N.A Minimum Instruction Time : 0

Correct Marks : 5 Wrong Marks : 1

Question Key Details :

Key	Value
Comprehension	MCQ

The project of 'NASA' targeting the landing of first woman/women astronaut/s on moon is known as:

1. MOM
2. ARTEMIS
3. MISMOON
4. Moon opposition

Options :

485584146401. 1
485584146402. 2
485584146403. 3
485584146404. 4

Question Number : 216 Question Id : 48558436601 Question Type : MCQ Option Shuffling : No Is Question Mandatory : No Calculator : None Response Time : N.A Think Time : N.A Minimum Instruction Time : 0

Correct Marks : 5 Wrong Marks : 1

Question Key Details :

Key	Value
Comprehension	MCQ

ناسا (NASA) کا پروجیکٹ جس کا مقصد پہلی خلاء عورت/عورتوں کو چاند پر اتارنا تھا وہ جانا جاتا ہے

1. (MOM) موم
2. (ARTEMIS) ارٹیمس
3. (MISMOON) مس مون
4. (Moon opposition) مون آپوزیشن

Options :

485584146401. 1
485584146402. 2
485584146403. 3
485584146404. 4

Question Number : 217 Question Id : 48558436602 Question Type : MCQ Option Shuffling : No Is Question Mandatory : No Calculator : None Response Time : N.A Think Time : N.A Minimum Instruction Time : 0

Correct Marks : 5 Wrong Marks : 1

Question Key Details :

Key	Value
Comprehension	MCQ

Which of the following is NOT true: The turning points of the graph of a function :

1. Represent local maxima and local minima
2. Represent Absolute maxima and Absolute minima
3. Represent point of inflexion
4. Represent neither local maxima nor local minima

Options :

485584146405. 1
485584146406. 2
485584146407. 3
485584146408. 4

Question Number : 217 Question Id : 48558436602 Question Type : MCQ Option Shuffling : No Is Question Mandatory : No Calculator : None Response Time : N.A Think Time : N.A Minimum Instruction Time : 0

Correct Marks : 5 Wrong Marks : 1

Question Key Details :

Key	Value
Comprehension	MCQ

مندرجہ ذیل میں درست نہیں ہے: ایک عمل کے گراف کا نقطہ تحول

1. علاقائی میکسما اور علاقائی مینیما کی نمائندگی
2. خالص میکسما اور خالص مینیما کی نمائندگی
3. نقطہ تصریف (inflexion) کی نمائندگی
4. علاقائی میکسما اور علاقائی مینیما میں سے کسی کی بھی نمائندگی نہیں

Options :

485584146405. 1
485584146406. 2
485584146407. 3
485584146408. 4

Question Number : 218 Question Id : 48558436603 Question Type : MCQ Option Shuffling : No Is Question Mandatory : No Calculator : None Response Time : N.A Think Time : N.A Minimum Instruction Time : 0

Correct Marks : 5 Wrong Marks : 1

Question Key Details :

Key	Value
Comprehension	MCQ

Any teaching activity which puts before the students the real problems, that they have to solve for themselves, problems for which there are no easy solutions in any book _____.

1. brings them close to guide books
2. makes them skilled
3. crafts their activity
4. sharpens their intelligence

Options :

485584146409. 1
485584146410. 2
485584146411. 3
485584146412. 4

Question Number : 218 Question Id : 48558436603 Question Type : MCQ Option Shuffling : No Is Question Mandatory : No Calculator : None Response Time : N.A Think Time : N.A Minimum Instruction Time : 0

Correct Marks : 5 Wrong Marks : 1

Question Key Details :

Key	Value
Comprehension	MCQ

وہ تعلیمی سرگرمی جو طلبا کے سامنے ایسے حقیقی مسائل کو پیش کرتی ہے جس کا حل انہیں خود بخود ڈھونڈنا ہو اور کسی بھی کتاب میں اس مسئلہ کا آسان حل نہ ہو

1. گائڈ بک کے قریب لے جاتا ہے
2. انہیں ہنرمند بناتا ہے
3. ان کی سرگرمیوں کو منظم کرتا ہے
4. ان کی قابلیت کو روشن کرتا ہے

Options :

485584146409. 1
485584146410. 2
485584146411. 3
485584146412. 4

Question Number : 219 Question Id : 48558436604 Question Type : MCQ Option Shuffling : No Is Question Mandatory : No Calculator : None Response Time : N.A Think Time : N.A Minimum Instruction Time : 0

Correct Marks : 5 Wrong Marks : 1

Question Key Details :

Key	Value
Comprehension	MCQ

A mathematics teacher told the students that her laptop and phone can run out of charge independently of each other. The probability that her phone is out of charge is 0.2 and the probability that they are both out of charge is 0.06. Find the probability that her laptop is out of charge.

1. 0.86
2. 0.4
3. 0.3
4. 0.14

Options :

485584146413. 1
485584146414. 2
485584146415. 3
485584146416. 4

Question Number : 219 Question Id : 48558436604 Question Type : MCQ Option Shuffling : No Is Question Mandatory : No Calculator : None Response Time : N.A Think Time : N.A Minimum Instruction Time : 0

Correct Marks : 5 Wrong Marks : 1

Question Key Details :

Key	Value
Comprehension	MCQ

ایک ریاضی کے استاد نے طلبا سے کہا کہ اس کا موبائل اور لیپ ٹاپ دونوں کا علیحدہ طور پر چارج ختم ہو سکتا ہے۔ تو اگر اس کے موبائل کے چارج ختم ہونے کا امکان (probability) 0.2 اور دونوں کے چارج کا ایک ساتھ ختم ہونے کا امکان 0.06 ہے تو صرف لیپ ٹاپ کے ڈسچارج ہونے کے امکان (probability) کو تلاش کریں۔

1. 0.86
2. 0.4
3. 0.3
4. 0.14

Options :

485584146413. 1
485584146414. 2
485584146415. 3
485584146416. 4

Question Number : 220 Question Id : 48558436605 Question Type : MCQ Option Shuffling : No Is Question Mandatory : No Calculator : None Response Time : N.A Think Time : N.A Minimum Instruction Time : 0

Correct Marks : 5 Wrong Marks : 1

Question Key Details :

Key	Value
Comprehension	MCQ

By explaining the theory of probability a teacher told that "For a particular E_i we can use a special formula."

Which theorem is he/she teaching?

1. Conditional Probability Theorem
2. Multiplication Theorem
3. Baye's Theorem
4. Total Probability Theorem

Options :

485584146417. 1
485584146418. 2
485584146419. 3
485584146420. 4

Question Number : 220 Question Id : 48558436605 Question Type : MCQ Option Shuffling : No Is Question Mandatory : No Calculator : None Response Time : N.A Think Time : N.A Minimum Instruction Time : 0

Correct Marks : 5 Wrong Marks : 1

Question Key Details :

Key	Value
Comprehension	MCQ

امکان کے نظریہ (Theory of Probability) کی توضیح کرتے ہوئے ایک استاد نے کہا کہ ہم ایک مخصوص E_i کے لیے ایک خاص فارمولہ کا استعمال کر سکتے ہیں وہ کونسا نظریہ پڑھا رہی ہے:

1. ممکنہ معاہدے کا نظریہ
2. کئی نظریات
3. بائینر نظریات
4. کل ممکنہ نظریہ

Options :

485584146417. 1
485584146418. 2
485584146419. 3
485584146420. 4

Question Number : 221 Question Id : 48558436606 Question Type : MCQ Option Shuffling : No Is Question Mandatory : No Calculator : None Response Time : N.A Think Time : N.A Minimum Instruction Time : 0

Correct Marks : 5 Wrong Marks : 1

Question Key Details :

Key	Value
Comprehension	MCQ

If a child draws a tree by observing the trees in her surroundings and her teacher introduced scale drawings to her, the experience can help her to develop a _____.

1. sense of aesthetics
2. sense of proportion
3. sense of perspective
4. sense of transference

Options :

485584146421. 1
485584146422. 2
485584146423. 3
485584146424. 4

Question Number : 221 Question Id : 48558436606 Question Type : MCQ Option Shuffling : No Is Question Mandatory : No Calculator : None Response Time : N.A Think Time : N.A Minimum Instruction Time : 0

Correct Marks : 5 Wrong Marks : 1

Question Key Details :

Key	Value
Comprehension	MCQ

اگر ایک بچہ اپنے اردگرد کے درختوں کا مشاہدہ کر کے ایک درخت کی تصویر بناتی ہے اور اس کے استاد نے اس کے سامنے پیمائشی خاکہ کشی (scale drawings) کا تعارف کروایا ہے تو یہ تجربہ بچے کے اندر _____ کو ترقی دینے میں معاون ثابت ہوگا۔

1. جمالیات کے ادراک
2. تناسب کے ادراک
3. نظریاتی ادراک
4. نقل کے ادراک

Options :

485584146421. 1
485584146422. 2
485584146423. 3
485584146424. 4

Question Number : 222 Question Id : 48558436607 Question Type : MCQ Option Shuffling : No Is Question Mandatory : No Calculator : None Response Time : N.A Think Time : N.A Minimum Instruction Time : 0

Correct Marks : 5 Wrong Marks : 1

Question Key Details :

Key	Value
Comprehension	MCQ

A lot of school children find mathematics very difficult and social sciences easy. One of the reasons for their perceptiveness is that

1. mathematics demands expression
2. mathematics is not common knowledge
3. mathematics demands precision
4. mathematics involves concrete images

Options :

485584146425. 1
485584146426. 2
485584146427. 3
485584146428. 4

Question Number : 222 Question Id : 48558436607 Question Type : MCQ Option Shuffling : No Is Question Mandatory : No Calculator : None Response Time : N.A Think Time : N.A Minimum Instruction Time : 0

Correct Marks : 5 Wrong Marks : 1

Question Key Details :

Key	Value
Comprehension	MCQ

زیادہ تر اسکول کے بچے ریاض کو بہت مشکل اور سوئل سائنس کو آسان سمجھتے ہیں اور ان لوگوں کے اس خیال کا ایک سبب یہ ہے کہ

1. ریاضی اظہار کا طلب گار ہے۔
2. ریاضی ایک معمولی علم نہیں ہے۔
3. ریاضی اختصار کا طلب گار ہے۔
4. ریاضی میں ٹھوس تصاویر شامل ہوتی ہیں۔

Options :

485584146425. 1
485584146426. 2
485584146427. 3
485584146428. 4

Question Number : 223 Question Id : 48558436608 Question Type : MCQ Option Shuffling : No Is Question Mandatory : No Calculator : None Response Time : N.A Think Time : N.A Minimum Instruction Time : 0

Correct Marks : 5 Wrong Marks : 1

Question Key Details :

Key	Value
Comprehension	MCQ

National Gallery of Modern Art (NGMA) is situated in

1. London
2. California
3. Kolkata
4. New Delhi

Options :

485584146429. 1
485584146430. 2
485584146431. 3
485584146432. 4

Question Number : 223 Question Id : 48558436608 Question Type : MCQ Option Shuffling : No Is Question Mandatory : No Calculator : None Response Time : N.A Think Time : N.A Minimum Instruction Time : 0

Correct Marks : 5 Wrong Marks : 1

Question Key Details :

Key	Value
Comprehension	MCQ

نیشنل گیلری آف ماڈرن آرٹ (NGMA) National Gallery of Modern Art واقع ہے:

1. لندن (London)
2. کیلی فورنیا (California)
3. کولکاتا (Kolkata)
4. نئی دہلی (New Delhi)

Options :

485584146429. 1
485584146430. 2
485584146431. 3
485584146432. 4

Question Number : 224 Question Id : 48558436609 Question Type : MCQ Option Shuffling : No Is Question Mandatory : No Calculator : None Response Time : N.A Think Time : N.A Minimum Instruction Time : 0

Correct Marks : 5 Wrong Marks : 1

Question Key Details :

Key	Value
Comprehension	MCQ

Which School of Art was also known as Graeco Buddhist School of Art?

1. Amravati School of Art
2. Mathura School of Art
3. Gandhara School of Art
4. Bengal School of Art

Options :

485584146433. 1
485584146434. 2
485584146435. 3
485584146436. 4

Question Number : 224 Question Id : 48558436609 Question Type : MCQ Option Shuffling : No Is Question Mandatory : No Calculator : None Response Time : N.A Think Time : N.A Minimum Instruction Time : 0

Correct Marks : 5 Wrong Marks : 1

Question Key Details :

Key	Value
Comprehension	MCQ

کون سا اسکول آف آرٹ یونانی بدھ اسکول آف آرٹ (Graeco Budhist School of Art) کے نام سے جانا جاتا ہے؟

1. امراتئی اسکول آف آرٹ
2. منہرا اسکول آف آرٹ
3. گندھارا اسکول آف آرٹ
4. بنگال اسکول آف آرٹ

Options :

485584146433. 1
485584146434. 2
485584146435. 3
485584146436. 4

Question Number : 225 Question Id : 48558436610 Question Type : MCQ Option Shuffling : No Is Question Mandatory : No Calculator : None Response Time : N.A Think Time : N.A Minimum Instruction Time : 0

Correct Marks : 5 Wrong Marks : 1

Question Key Details :

Key	Value
Comprehension	MCQ

What was the profession of Partha Mitter?

1. Painter
2. Sculptor
3. Art Historian
4. Architect

Options :

485584146437. 1
485584146438. 2
485584146439. 3
485584146440. 4

Question Number : 225 Question Id : 48558436610 Question Type : MCQ Option Shuffling : No Is Question Mandatory : No Calculator : None Response Time : N.A Think Time : N.A Minimum Instruction Time : 0

Correct Marks : 5 Wrong Marks : 1

Question Key Details :

Key	Value
Comprehension	MCQ

1. پینٹر
2. نقاش
3. فن کا تاریخ نویس
4. فن عمارت کا ماہر

Options :

485584146437. 1
485584146438. 2
485584146439. 3
485584146440. 4

Question Number : 226 Question Id : 48558436611 Question Type : MCQ Option Shuffling : No Is Question Mandatory : No Calculator : None Response Time : N.A Think Time : N.A Minimum Instruction Time : 0

Correct Marks : 5 Wrong Marks : 1

Question Key Details :

Key	Value
Comprehension	MCQ

'Contemporary Art in India : A perspective' is a book written by

1. Pran Nath Mago
2. Jasleen Dhamija
3. K. R. Srinivasan
4. Devi Prasad

Options :

485584146441. 1
485584146442. 2
485584146443. 3
485584146444. 4

Question Number : 226 Question Id : 48558436611 Question Type : MCQ Option Shuffling : No Is Question Mandatory : No Calculator : None Response Time : N.A Think Time : N.A Minimum Instruction Time : 0

Correct Marks : 5 Wrong Marks : 1

Question Key Details :

Key	Value
Comprehension	MCQ

ہندوستان میں حالیہ آرٹ: ایک نظریہ (Contemporary Art in India : A perspective) کتاب کس نے لکھی ہے؟

1. (Pran Nath Mago) پرن ناتھ ماگو
2. (Jasleen Dhamija) جاسلین دھمیجا
3. (K. R. Srinivasan) کے آر شری نواسن
4. (Devi Prasad) دیوی پرساد

Options :

485584146441. 1
485584146442. 2
485584146443. 3
485584146444. 4

Question Number : 227 Question Id : 48558436612 Question Type : MCQ Option Shuffling : No Is Question Mandatory : No Calculator : None Response Time : N.A Think Time : N.A Minimum Instruction Time : 0

Correct Marks : 5 Wrong Marks : 1

Question Key Details :

Key	Value
Comprehension	MCQ

A technique of portraying an object to be closer than it actually is, or having less depth or distance, is called _____.

1. Depth of field
2. Foreshortening
3. Focusing
4. Illustration

Options :

485584146445. 1
485584146446. 2
485584146447. 3
485584146448. 4

Question Number : 227 Question Id : 48558436612 Question Type : MCQ Option Shuffling : No Is Question Mandatory : No Calculator : None Response Time : N.A Think Time : N.A Minimum Instruction Time : 0

Correct Marks : 5 Wrong Marks : 1

Question Key Details :

Key	Value
Comprehension	MCQ

کسی بھی چیز کو اس کی حقیقی گہرائی یا حقیقی دوری سے بھی قریب تر کر کے دکھانے کی تکنیک کو کہا جاتا ہے:

1. (Depth of field) میدان کی گہرائی
2. (Foreshortening) آڑی ترچھی تصویر
3. (Focusing) ترکیز
4. (Illustration) تصویری وضاحت

Options :

485584146445. 1
485584146446. 2
485584146447. 3
485584146448. 4

Question Number : 228 Question Id : 48558436613 Question Type : MCQ Option Shuffling : No Is Question Mandatory : No Calculator : None Response Time : N.A Think Time : N.A Minimum Instruction Time : 0

Correct Marks : 5 Wrong Marks : 1

Question Key Details :

Key	Value
Comprehension	MCQ

The artwork 'Santhal Family' made by Ramkinker Vaijis is which medium/ form

1. Oil Painting
2. Mural
3. Sculpture
4. Monograph

Options :

485584146449. 1
485584146450. 2
485584146451. 3
485584146452. 4

Question Number : 228 Question Id : 48558436613 Question Type : MCQ Option Shuffling : No Is Question Mandatory : No Calculator : None Response Time : N.A Think Time : N.A Minimum Instruction Time : 0

Correct Marks : 5 Wrong Marks : 1

Question Key Details :

Key	Value
Comprehension	MCQ

رام کنکر وائیس (Ramkinker Vaijis) کے ذریعہ بنایا گیا فن پارہ سنتھال فیملی (Santhal Family) کس میڈیم یا فارم سے ہے؟

1. آئل پینٹنگ
2. مڑال
3. مجسمہ سازی
4. مونو گراف

Options :

485584146449. 1
485584146450. 2
485584146451. 3
485584146452. 4

Question Number : 229 Question Id : 48558436614 Question Type : MCQ Option Shuffling : No Is Question Mandatory : No Calculator : None Response Time : N.A Think Time : N.A Minimum Instruction Time : 0

Correct Marks : 5 Wrong Marks : 1

Question Key Details :

Key	Value
Comprehension	MCQ

Match List I with List II

LIST I		LIST II	
A.	Intrusive igneous rock	I.	Slate
B.	Extrusive igneous rock	II.	Basalt
C.	Sedimentary rock	III.	Granite
D.	Metamorphic rock	IV.	Lime stone

Choose the correct answer from the options given below:

1. A-III, B-II, C-IV, D-I
2. A-I, B-II, C-III, D-IV
3. A-IV, B-III, C-II, D-I
4. A-II, B-III, C-I, D-IV

Options :

485584146453. 1
485584146454. 2
485584146455. 3
485584146456. 4

Question Number : 229 Question Id : 48558436614 Question Type : MCQ Option Shuffling : No Is Question Mandatory : No Calculator : None Response Time : N.A Think Time : N.A Minimum Instruction Time : 0

Correct Marks : 5 Wrong Marks : 1

Question Key Details :

Key	Value
Comprehension	MCQ

فہرست اول (I) کو فہرست ثانی (II) سے ملائیں۔

فہرست اول (I)	فہرست ثانی (II)
A. باخلی آتشی چٹان	I. سلیٹ پتھر
B. خارجی آتشی چٹان	II. باسالت پتھر
C. یرت دار چٹان	III. گرینائٹ پتھر
D. میٹا مورفک چٹان	IV. جونا پتھر

مندرجہ ذیل انتخابات میں سے درست جواب کی نشان دہی کریں۔

1. A-III, B-II, C-IV, D-I
2. A-I, B-II, C-III, D-IV
3. A-IV, B-III, C-II, D-I
4. A-II, B-III, C-I, D-IV

Options :

485584146453. 1
485584146454. 2
485584146455. 3
485584146456. 4

Question Number : 230 Question Id : 48558436615 Question Type : MCQ Option Shuffling : No Is Question Mandatory : No Calculator : None Response Time : N.A Think Time : N.A Minimum Instruction Time : 0

Correct Marks : 5 Wrong Marks : 1

Question Key Details :

Key	Value
Comprehension	MCQ

The content of teaching social sciences should aim at raising students' awareness through

1. questioning of familiar social reality
2. enacting of familiar social reality
3. developing a neutral perspective on society
4. transmitting an idea of society

Options :

485584146457. 1

485584146458. 2
485584146459. 3
485584146460. 4

Question Number : 230 Question Id : 48558436615 Question Type : MCQ Option Shuffling : No Is Question Mandatory : No Calculator : None Response Time : N.A Think Time : N.A Minimum Instruction Time : 0

Correct Marks : 5 Wrong Marks : 1

Question Key Details :

Key	Value
Comprehension	MCQ

سوشل سائنس کے تعلیمی مواد کا مقصد طلباء کی آگاہی میں ترقی ہونا چاہیے _____ کے ذریعہ

1. واقف سماجی حقائق پر سوال
2. شناسا سماجی حقائق پر قانون بنانا
3. سماج پر غیر جانب دار نظریے کو بڑھاوا دینا
4. ایک سماج کے آئیڈیا کو پیش منتقل کرنا

Options :

485584146457. 1
485584146458. 2
485584146459. 3
485584146460. 4

Question Number : 231 Question Id : 48558436616 Question Type : MCQ Option Shuffling : No Is Question Mandatory : No Calculator : None Response Time : N.A Think Time : N.A Minimum Instruction Time : 0

Correct Marks : 5 Wrong Marks : 1

Question Key Details :

Key	Value
Comprehension	MCQ

Who wrote the book "History of British India" ?

1. James Mill
2. James Rainil
3. Warren Hastings
4. Cornwallis

Options :

485584146461. 1
485584146462. 2
485584146463. 3
485584146464. 4

Question Number : 231 Question Id : 48558436616 Question Type : MCQ Option Shuffling : No Is Question Mandatory : No Calculator : None Response Time : N.A Think Time : N.A Minimum Instruction Time : 0

Correct Marks : 5 Wrong Marks : 1

Question Key Details :

Key	Value
Comprehension	MCQ

برٹش انڈیا کی تاریخ (History of British India) کتاب کس نے لکھی؟

1. جیمس مل (James Mill)
2. جیمس رینل (James Rainil)
3. وارین ہسٹنگ (Warren Hastings)
4. کورنوالیس (Cornwallis)

Options :

485584146461. 1
485584146462. 2
485584146463. 3
485584146464. 4

Question Number : 232 Question Id : 48558436617 Question Type : MCQ Option Shuffling : No Is Question Mandatory : No Calculator : None Response Time : N.A Think Time : N.A Minimum Instruction Time : 0

Correct Marks : 5 Wrong Marks : 1

Question Key Details :

Key	Value
Comprehension	MCQ

The school level social sciences encompass _____ concerns of society and include a wide range of content drawn from various disciplines.

1. unitary
2. overarching
3. diverse
4. sweeping

Options :

485584146465. 1
485584146466. 2
485584146467. 3
485584146468. 4

Question Number : 232 Question Id : 48558436617 Question Type : MCQ Option Shuffling : No Is Question Mandatory : No Calculator : None Response Time : N.A Think Time : N.A Minimum Instruction Time : 0

Correct Marks : 5 Wrong Marks : 1

Question Key Details :

Key	Value
Comprehension	MCQ

اسکولی سطح پر سوشل سائنس کی تعلیم سوسائٹی کے _____ فکر کو شامل ہوتی ہے اور مختلف شعبہ ہائے جات سے لیے گئے ایک وسیع مواد کو اپنے دائرے میں لاتی ہے۔

1. وحدانی
2. جامع
3. مختلف
4. عام

Options :

485584146465. 1
485584146466. 2
485584146467. 3
485584146468. 4

Question Number : 233 Question Id : 48558436618 Question Type : MCQ Option Shuffling : No Is Question Mandatory : No Calculator : None Response Time : N.A Think Time : N.A Minimum Instruction Time : 0

Correct Marks : 5 Wrong Marks : 1

Question Key Details :

Key	Value
Comprehension	MCQ

Which of the following subjects has replaced 'civics' in the school syllabus?

1. Civilization
2. Social and Political life
3. Economic and Social Life
4. Nationalism

Options :

485584146469. 1
485584146470. 2
485584146471. 3
485584146472. 4

Question Number : 233 Question Id : 48558436618 Question Type : MCQ Option Shuffling : No Is Question Mandatory : No Calculator : None Response Time : N.A Think Time : N.A Minimum Instruction Time : 0

Correct Marks : 5 Wrong Marks : 1

Question Key Details :

Key	Value
Comprehension	MCQ

مندرجہ ذیل میں سے کن subject نے اسکول کے نصاب میں "شہری امور" (civics) کو بدل دیا ہے؟

1. تہذیب
2. سماجی اور سیاسی زندگی
3. معاشی اور سماجی زندگی
4. قومیت

Options :

485584146469. 1
485584146470. 2
485584146471. 3
485584146472. 4

Question Number : 234 Question Id : 48558436619 Question Type : MCQ Option Shuffling : No Is Question Mandatory : No Calculator : None Response Time : N.A Think Time : N.A Minimum Instruction Time : 0

Correct Marks : 5 Wrong Marks : 1

Question Key Details :

Key	Value
Comprehension	MCQ

Today, if a teacher wants to teach the importance of good deeds and practicing non-violence, she can use the following as a resource:

1. Ambedkar's writings
2. Jaina teachings
3. Puranic Literature
4. Akbarnama

Options :

485584146473. 1
485584146474. 2
485584146475. 3
485584146476. 4

Question Number : 234 Question Id : 48558436619 Question Type : MCQ Option Shuffling : No Is Question Mandatory : No Calculator : None Response Time : N.A Think Time : N.A Minimum Instruction Time : 0

Correct Marks : 5 Wrong Marks : 1

Question Key Details :

Key	Value
Comprehension	MCQ

اگر ایک استاد آج عدم تشدد اپنانے اور اچھے اعمال کی اہمیت کے بارے میں پڑھانا چاہے تو مندرجہ ذیل میں کس مواد کا استعمال کر سکتی ہے؟

1. امیٹکر کی تحریریں
2. جین مذہب کی تعلیمات
3. پرانا ادب
4. اکبر نامہ

Options :

485584146473. 1
485584146474. 2
485584146475. 3
485584146476. 4

Question Number : 235 Question Id : 48558436620 Question Type : MCQ Option Shuffling : No Is Question Mandatory : No Calculator : None Response Time : N.A Think Time : N.A Minimum Instruction Time : 0

Correct Marks : 5 Wrong Marks : 1

Question Key Details :

Key	Value
Comprehension	MCQ

Literary devices such as simile and metaphor are used in which of the following?

1. Prose
2. Poetry
3. Grammar
4. Drama

Options :

485584146477. 1
485584146478. 2
485584146479. 3
485584146480. 4

Question Number : 235 Question Id : 48558436620 Question Type : MCQ Option Shuffling : No Is Question Mandatory : No Calculator : None Response Time : N.A Think Time : N.A Minimum Instruction Time : 0

Correct Marks : 5 Wrong Marks : 1

Question Key Details :

Key	Value
Comprehension	MCQ

تشبیہ و استعارہ جیسے ادبی تکنیک مندرجہ ذیل میں سے کس میں استعمال کیے جاتے ہیں:

1. نثر
2. شاعری
3. نحو و قواعد
4. ڈراما

Options :

485584146477. 1
485584146478. 2
485584146479. 3
485584146480. 4

Question Number : 236 Question Id : 48558436621 Question Type : MCQ Option Shuffling : No Is Question Mandatory : No Calculator : None Response Time : N.A Think Time : N.A Minimum Instruction Time : 0

Correct Marks : 5 Wrong Marks : 1

Question Key Details :

Key	Value
Comprehension	MCQ

'Man is a born child, his power is the power of growth.'

What is the meaning of this sentence?

1. Humans should remain stagnant
2. Humans should refrain from adding to sources of knowledge
3. Intellectual and cognitive regression are important characteristics of humans
4. Intellectual and cognitive development are important characteristics of human.

Options :

485584146481. 1
485584146482. 2
485584146483. 3
485584146484. 4

Question Number : 236 Question Id : 48558436621 Question Type : MCQ Option Shuffling : No Is Question Mandatory : No Calculator : None Response Time : N.A Think Time : N.A Minimum Instruction Time : 0

Correct Marks : 5 Wrong Marks : 1

Question Key Details :

Key	Value
Comprehension	MCQ

انسان ایک پیدائشی بچہ ہے اور اس کی طاقت نشوونما کی طاقت ہے اس جملے کا کیا مطلب ہے؟

1. انسان کو جوں کا توں رہنا چاہیے۔
2. انسان کو اپنے منبع علم میں اضافہ سے بچنا چاہیے۔
3. عقل و فہم کی تنزلی انسان کی اہم خصوصیات میں سے ہے۔
4. عقل و فہم میں ترقی انسان کی اہم خصوصیات میں سے ہے۔

Options :

485584146481. 1
485584146482. 2
485584146483. 3
485584146484. 4

Question Number : 237 Question Id : 48558436622 Question Type : MCQ Option Shuffling : No Is Question Mandatory : No Calculator : None Response Time : N.A Think Time : N.A Minimum Instruction Time : 0

Correct Marks : 5 Wrong Marks : 1

Question Key Details :

Key	Value
Comprehension	MCQ

The Booker Prize 2022 was awarded to which Indian novel?

1. The Alchemist
2. A Tomb of Sand
3. Train to Pakistan
4. One Hundred Years of Solitude

Options :

485584146485. 1
485584146486. 2
485584146487. 3
485584146488. 4

Question Number : 237 Question Id : 48558436622 Question Type : MCQ Option Shuffling : No Is Question Mandatory : No Calculator : None Response Time : N.A Think Time : N.A Minimum Instruction Time : 0

Correct Marks : 5 Wrong Marks : 1

Question Key Details :

Key	Value
Comprehension	MCQ

کس ہندوستانی ادیب کو بکر پرائز (The Booker Prize 2022) نوازا گیا ہے؟

1. (The Alchemist) کیمیاگری
2. (The Alchemist) ریت کی قبر
3. (Train to Pakistan) پاکستان کو جانے والی ٹرین
4. (One Hundred Years of Solitude) اکیلے پن کے سو برس

Options :

485584146485. 1
485584146486. 2
485584146487. 3
485584146488. 4

Question Number : 238 Question Id : 48558436623 Question Type : MCQ Option Shuffling : No Is Question Mandatory : No Calculator : None Response Time : N.A Think Time : N.A Minimum Instruction Time : 0

Correct Marks : 5 Wrong Marks : 1

Question Key Details :

Key	Value
Comprehension	MCQ

What are the challenges faced by students while learning English in India?

- A. Lack of trained teachers
- B. Lack of an enabling language environment
- C. Rote memorisation of poems
- D. Objective way of testing language skills
- E. Lack of proper teaching - learning materials

Choose the correct answer from the options given below:

1. A, B, C only
2. B, C, D only
3. A, B, C, D only
4. A, B, C, D and E

Options :

485584146489. 1
485584146490. 2
485584146491. 3
485584146492. 4

Question Number : 238 Question Id : 48558436623 Question Type : MCQ Option Shuffling : No Is Question Mandatory : No Calculator : None Response Time : N.A Think Time : N.A Minimum Instruction Time : 0

Correct Marks : 5 Wrong Marks : 1

Question Key Details :

Key	Value
Comprehension	MCQ

ہندوستان میں بچوں کو انگریزی سیکھنے وقت کن مسائل کا سامنا کرنا پڑتا ہے؟

- A. تجربہ کار استاد کی کمی
B. سازگار لسانی ماحول کی کمی
C. نظموں کو رٹا رٹا کر یاد کرنا
D. زبانوں صلاحیت جانچنے کا معروضی طریقہ
E. تعلیم و تعلم کے مناسب مواد کی کمی

مندرجہ ذیل انتخابات میں سے درست جواب کی نشان دہی کریں۔

1. A, B, C صرف
2. B, C, D صرف
3. A, B, C, D صرف
4. E اور A, B, C, D صرف

Options :

485584146489. 1
485584146490. 2
485584146491. 3
485584146492. 4

Question Number : 239 Question Id : 48558436624 Question Type : MCQ Option Shuffling : No Is Question Mandatory : No Calculator : None Response Time : N.A Think Time : N.A Minimum Instruction Time : 0

Correct Marks : 5 Wrong Marks : 1

Question Key Details :

Key	Value
Comprehension	MCQ

What is a biography?

1. An account of a person written by oneself.
2. An account of a person written by others.
3. A book of biology.
4. A historical account.

Options :

485584146493. 1
485584146494. 2
485584146495. 3
485584146496. 4

Question Number : 239 Question Id : 48558436624 Question Type : MCQ Option Shuffling : No Is Question Mandatory : No Calculator : None Response Time : N.A Think Time : N.A Minimum Instruction Time : 0

Correct Marks : 5 Wrong Marks : 1

Question Key Details :

Key	Value
Comprehension	MCQ

سوانح (biography) کسے کہتے ہیں:

1. ایک شخص کے ذریعہ لکھا گیا اس کے خود کی زندگی کے حالات
2. کسی شخص کی حالات زندگی جو دوسروں کے ذریعہ لکھی گئی ہو
3. علم حیاتیات کی ایک کتاب
4. ایک تاریخی دستاویز

Options :

485584146493. 1
485584146494. 2
485584146495. 3
485584146496. 4

Question Number : 240 Question Id : 48558436625 Question Type : MCQ Option Shuffling : No Is Question Mandatory : No Calculator : None Response Time : N.A Think Time : N.A Minimum Instruction Time : 0

Correct Marks : 5 Wrong Marks : 1

Question Key Details :

Key	Value
Comprehension	MCQ

How can grammar books be modified to minimise the difficulties learners face while learning grammar?

- A. By teaching grammar in context
- B. By including pictures and illustrations
- C. By giving more practice and examples
- D. By focusing only on the rules
- E. By translating in different languages

Choose the correct answer from the options given below:

1. A, B, C only
2. A, D, E only
3. C, D, E only
4. B, C, D only

Options :

485584146497. 1
485584146498. 2
485584146499. 3
485584146500. 4

Question Number : 240 Question Id : 48558436625 Question Type : MCQ Option Shuffling : No Is Question Mandatory : No Calculator : None Response Time : N.A Think Time : N.A Minimum Instruction Time : 0

Correct Marks : 5 Wrong Marks : 1

Question Key Details :

Key	Value
Comprehension	MCQ

قواعد کی کتاب میں کس طرح کی رد و بدل کی جائے کہ وہ ان پریشانیوں کو کم کر دے جس کا سامنا طلباء قواعد سیکھتے وقت کرتے ہیں۔

A. سیاق و سباق کی روشنی میں قواعد پڑھا کر

B. تصاویر اور تصویری مثالیں پیش کر کے

C. خوب زیادہ ذہنی ورزش اور مثالیں دے کر

D. صرف قوانین پر توجہ مرکوز کر کے

E. مختلف زبانوں میں ترجمہ کر کے

مندرجہ ذیل انتخابات میں سے درست جواب کی نشان دہی کریں۔

1. A, B, C صرف

2. A, D, E صرف

3. C, D, E صرف

4. B, C, D صرف

Options :

485584146497. 1

485584146498. 2

485584146499. 3

485584146500. 4

Sub-Section Number :

2

Sub-Section Id :

4855842703

Question Shuffling Allowed :

No

Is Section Default? :

null

Question Number : 241 Question Id : 48558436626 Question Type : MCQ Option Shuffling : No Is Question Mandatory : No Calculator : None Response Time : N.A Think Time : N.A Minimum Instruction Time : 0

Correct Marks : 5 Wrong Marks : 1

Question Key Details :

Key	Value
Comprehension	Compl

At the upper primary level, the emphasis is on engaging the learner in learning principles of science through familiar experiences, working with hands to design simple technological units and modules and continuing to learn more on environment and health through activities and surveys.

As a science teacher, you will agree that scientific concepts are learnt better if learners explore them through activities and experiments. Learners should be given opportunity to explore science in their everyday experiences. You should engage learners (preferably in groups) in meaningful investigations - particularly of the problems they perceive to be significant and important.

As a science teacher, you should encourage discussions with the teacher and peers. You can ask your learners to gather information from newspapers, knowledgeable persons in the neighborhood, and from easily available sources and discuss about them in class with peers and teachers.

Role play, skits, cooperative learning strategies should be adopted to ensure larger participation and sharing of learning outcomes. It is advised that biographical narratives of scientists and inventors can be used. You should keep in mind that efforts should be continued for development of the process skills of science.

In order to explore the orbits and distribution of electrons in orbits, which could be the most appropriate teaching strategy/method?

1. Lecture
2. Demonstration
3. Brain-storming followed by exercise
4. Numerical Practice

Options :

485584146501. 1
485584146502. 2
485584146503. 3
485584146504. 4

Question Number : 241 Question Id : 48558436626 Question Type : MCQ Option Shuffling : No Is Question Mandatory : No Calculator : None Response Time : N.A Think Time : N.A Minimum Instruction Time : 0

Correct Marks : 5 Wrong Marks : 1

Question Key Details :

Key	Value
Comprehension	Comp1

اعلیٰ پرائمری سطح پر بچوں کو اس بات میں مصروف کیا جاتا ہے کہ وہ مماثل تجربات کے ذریعہ سائنسی اصول سیکھیں اپنے ہاتھ سے آسان ٹکنالوجی اکانی اور مادیوں ٹیز اٹن کریں نیز سروے اور سرگرمیوں کے ذریعہ ماحول اور صحت سے متعلق مزید جانکاری حاصل کریں۔ سائنس کے استاد ہونے کے ناطے آپ اس بات سے اتفاق کریں گے کہ سائنسی نظریات کو بہتر طور پر سیکھا جا سکتا ہے اگر متعلم انہیں تجربات اور سرگرمیوں کے ذریعہ سیکھے۔ طالب علم کو اس بات کا موقع دینا چاہئے کہ وہ اپنے روز مرہ کے تجربات سے سائنس دریافت کرے۔ آپ بچوں کو (ترجیحاً جماعت میں) معنی خیز تلاش و تفتیش میں مصروف کریں اور خاص طور سے ان مسائل پر توجہ دیں جنہیں وہ اہم اور قابل اعتنا سمجھتے ہوں۔

سائنس کے استاد ہونے کی حیثیت سے آپ استاد اور ہم عمر بچوں سے بات چیت کرنے کو بڑھاوا دینا چاہئے۔ آپ ان سے کہیں کہ وہ اخبارات اور پاس پڑوس کے جانکار لوگوں سے حقائق جمع کرے یا کسی بھی ایسی جگہ سے جہاں یہ باسانی موجود ہوں اور ان جمع کیے گئے حقائق پر کلاسوں میں ہم عمر والے بچوں اور اساتذہ سے بحث و مباحثہ کریں۔

کردار کی ادائیگی اور تعاون پر مبنی تعلیم کو اپنا کر بڑی شراکت اور تعلیمی نائنچ کو یقینی بنانا چاہیے۔ اس سلسلے میں موجدین اور سائنس داں کے سوانحی قصوں کا بیانا کرنا بھی مفید ہے۔ یہ بات دھیان میں رہے کہ سائنس کی عملی صلاحیت جاری و ساری رہے۔

orbits میں الیکٹرون (electron) کا مدار اور اس میں الیکٹرون کی تقسیم کو دریافت کرنے کیلئے سب سے بہترین تعلیمی طریقہ کون سا ہے؟

1. لکچر
2. مظاہرہ
3. مشق کے ذریعہ حرکت ذہن (Brain-storming) کا طریقہ
4. عدد سے متعلق ورزش

Options :

485584146501. 1

485584146502. 2
485584146503. 3
485584146504. 4

Question Number : 242 Question Id : 48558436627 Question Type : MCQ Option Shuffling : No Is Question Mandatory : No Calculator : None Response Time : N.A Think Time : N.A Minimum Instruction Time : 0

Correct Marks : 5 Wrong Marks : 1

Question Key Details :

Key	Value
Comprehension	Comp1

At the upper primary level, the emphasis is on engaging the learner in learning principles of science through familiar experiences, working with hands to design simple technological units and modules and continuing to learn more on environment and health through activities and surveys.

As a science teacher, you will agree that scientific concepts are learnt better if learners explore them through activities and experiments. Learners should be given opportunity to explore science in their everyday experiences. You should engage learners (preferably in groups) in meaningful investigations - particularly of the problems they perceive to be significant and important.

As a science teacher, you should encourage discussions with the teacher and peers. You can ask your learners to gather information from newspapers, knowledgeable persons in the neighborhood, and from easily available sources and discuss about them in class with peers and teachers.

Role play, skits, cooperative learning strategies should be adopted to ensure larger participation and sharing of learning outcomes. It is advised that biographical narratives of scientists and inventors can be used. You should keep in mind that efforts should be continued for development of the process skills of science.

Which would be the most appropriate teaching learning material to explain different types of atomic models?

1. Charts
2. Pictures
3. Video animation
4. Black board

Options :

485584146505. 1
485584146506. 2
485584146507. 3
485584146508. 4

Question Number : 242 Question Id : 48558436627 Question Type : MCQ Option Shuffling : No Is Question Mandatory : No Calculator : None Response Time : N.A Think Time : N.A Minimum Instruction Time : 0

Correct Marks : 5 Wrong Marks : 1

Question Key Details :

Key	Value
Comprehension	Comp1

اعلیٰ پرائمری سطح پر بچوں کو اس بات میں مصروف کیا جاتا ہے کہ وہ مماثل تجربات کے ذریعہ سائنسی اصول سیکھیں اپنے ہاتھ سے آسان تکنالوجکل اکائی اور ماڈیول ڈیزائن کریں نیز سروے اور سرگرمیوں کے ذریعہ ماحول اور صحت سے متعلق مزید جانکاری حاصل کریں۔ سائنس کے استاد ہونے کے ناطے آپ اس بات سے اتفاق کریں گے کہ سائنسی نظریات کو بہتر طور پر سیکھا جا سکتا ہے اگر متعلم انہیں تجربات اور سرگرمیوں کے ذریعہ سیکھے۔ طالب علم کو اس بات کا موقع دینا چاہئے کہ وہ اپنے روز مرہ کے تجربات سے سائنس دریافت کرے۔ آپ بچوں کو (ترجیحاً جماعت میں) معنی خیز تلاش و تفتیش میں مصروف کریں اور خاص طور سے ان مسائل پر توجہ دیں جنہیں وہ اہم اور قابل اعتنا سمجھتے ہوں۔

سائنس کے استاد ہونے کی حیثیت سے آپ استاد اور ہم عمر بچوں سے بات چیت کرنے کو بڑھاوا دینا چاہئے۔ آپ ان سے کہیں کہ وہ اخبارات اور پاس پڑوس کے جانکار لوگوں سے حقائق جمع کرے یا کسی بھی ایسی جگہ سے جہاں یہ باسانی موجود ہوں اور ان جمع کیے گئے حقائق پر کلاسوں میں ہم عمر والے بچوں اور اساتذہ سے بحث و مباحثہ کریں۔

کردار کی ادائیگی اور تعاون پر مبنی تعلیم کو اپنا کر بڑی شراکت اور تعلیمی نائنٹج کو یقینی بنانا چاہیے۔ اس سلسلے میں موجدین اور سائنس دان کے سوانحی قصوں کا بیانا کرنا بھی مفید ہے۔ یہ بات دھیان میں رہے کہ سائنس کی عملی صلاحیت جاری و ساری رہے۔

مختلف قسم کے اٹامک ماڈل کی توضیح کیلیے سب سے زیادہ مناسب تعلیمی مواد کون سا ہے؟

1. نقشہ
2. تصاویر
3. ویڈیو اینیمیشن
4. بلیک بورڈ

Options :

485584146505. 1
485584146506. 2
485584146507. 3
485584146508. 4

Question Number : 243 Question Id : 48558436628 Question Type : MCQ Option Shuffling : No Is Question Mandatory : No Calculator : None Response Time : N.A Think Time : N.A Minimum Instruction Time : 0

Correct Marks : 5 Wrong Marks : 1

Question Key Details :

Key	Value
Comprehension	Comp1

At the upper primary level, the emphasis is on engaging the learner in learning principles of science through familiar experiences, working with hands to design simple technological units and modules and continuing to learn more on environment and health through activities and surveys.

As a science teacher, you will agree that scientific concepts are learnt better if learners explore them through activities and experiments. Learners should be given opportunity to explore science in their everyday experiences. You should engage learners (preferably in groups) in meaningful investigations - particularly of the problems they perceive to be significant and important.

As a science teacher, you should encourage discussions with the teacher and peers. You can ask your learners to gather information from newspapers, knowledgeable persons in the neighborhood, and from easily available sources and discuss about them in class with peers and teachers.

Role play, skits, cooperative learning strategies should be adopted to ensure larger participation and sharing of learning outcomes. It is advised that biographical narratives of scientists and inventors can be used. You should keep in mind that efforts should be continued for development of the process skills of science.

If a teacher is teaching types of sub-atomic particles and their charges, which could be the most appropriate tool for assesment?

1. Unit tests
2. Oral test
3. A field project
4. Crossword puzzle

Options :

- 485584146509. 1
- 485584146510. 2
- 485584146511. 3
- 485584146512. 4

Question Number : 243 Question Id : 48558436628 Question Type : MCQ Option Shuffling : No Is Question Mandatory : No Calculator : None Response Time : N.A Think Time : N.A Minimum Instruction Time : 0

Correct Marks : 5 Wrong Marks : 1

Question Key Details :

Key	Value
Comprehension	Comp1

اعلیٰ پرائمری سطح پر بچوں کو اس بات میں مصروف کیا جاتا ہے کہ وہ مماثل تجربات کے ذریعہ سائنسی اصول سیکھیں اپنے ہاتھ سے آسان تکنالوجکل اکائی اور ماڈیول ڈیزائن کریں نیز سروے اور سرگرمیوں کے ذریعہ ماحول اور صحت سے متعلق مزید جانکاری حاصل کریں۔ سائنس کے استاد ہونے کے ناطے آپ اس بات سے اتفاق کریں گے کہ سائنسی نظریات کو بہتر طور پر سیکھا جا سکتا ہے اگر متعلم انہیں تجربات اور سرگرمیوں کے ذریعہ سیکھے۔ طالب علم کو اس بات کا موقع دینا چاہئے کہ وہ اپنے روز مرہ کے تجربات سے سائنس دریافت کرے۔ آپ بچوں کو (ترجیحاً جماعت میں) معنی خیز تلاش و تفتیش میں مصروف کریں اور خاص طور سے ان مسائل پر توجہ دیں جنہیں وہ اہم اور قابل اعتنا سمجھتے ہوں۔

سائنس کے استاد ہونے کی حیثیت سے آپ استاد اور ہم عمر بچوں سے بات چیت کرنے کو بڑھاوا دینا چاہئے۔ آپ ان سے کہیں کہ وہ اخبارات اور پاس پڑوس کے جانکار لوگوں سے حقائق جمع کرے یا کسی بھی ایسی جگہ سے جہاں یہ باسانی موجود ہوں اور ان جمع کیے گئے حقائق پر کلاسوں میں ہم عمر والے بچوں اور اساتذہ سے بحث و مباحثہ کریں۔

کردار کی ادائیگی اور تعاون پر مبنی تعلیم کو اپنا کر بڑی شراکت اور تعلیمی نائنٹج کو یقینی بنانا چاہیے۔ اس سلسلے میں موجدین اور سائنس دان کے سوانحی قصوں کا بیانا کرنا بھی مفید ہے۔ یہ بات دھیان میں رہے کہ سائنس کی عملی صلاحیت جاری و ساری رہے۔

اگر ایک استاد ایٹم کے چھوٹے ذرات اور ان کے چارج کو پڑھا رہا ہے تو اس کے ٹیسٹ کیلیے سب سے زیادہ مناسب طریقہ کیا ہوگا؟

1. اکائی کی جانچ
2. زبانی جانچ
3. ایک فیلڈ پروجیکٹ
4. لفظی معممہ کا کہیل

Options :

485584146509. 1
485584146510. 2
485584146511. 3
485584146512. 4

Question Number : 244 Question Id : 48558436629 Question Type : MCQ Option Shuffling : No Is Question Mandatory : No Calculator : None Response Time : N.A Think Time : N.A Minimum Instruction Time : 0

Correct Marks : 5 Wrong Marks : 1

Question Key Details :

Key	Value
Comprehension	Comp1

At the upper primary level, the emphasis is on engaging the learner in learning principles of science through familiar experiences, working with hands to design simple technological units and modules and continuing to learn more on environment and health through activities and surveys.

As a science teacher, you will agree that scientific concepts are learnt better if learners explore them through activities and experiments. Learners should be given opportunity to explore science in their everyday experiences. You should engage learners (preferably in groups) in meaningful investigations - particularly of the problems they perceive to be significant and important.

As a science teacher, you should encourage discussions with the teacher and peers. You can ask your learners to gather information from newspapers, knowledgeable persons in the neighborhood, and from easily available sources and discuss about them in class with peers and teachers.

Role play, skits, cooperative learning strategies should be adopted to ensure larger participation and sharing of learning outcomes. It is advised that biographical narratives of scientists and inventors can be used. You should keep in mind that efforts should be continued for development of the process skills of science.

Which among the following objectives belongs to 'creating' cognitive process domain?

1. making a simple torch
2. explaining how a bulb glows
3. selecting suitable cell for torch
4. Indicating direction of flow of currents

Options :

- 485584146513. 1
- 485584146514. 2
- 485584146515. 3
- 485584146516. 4

Question Number : 244 Question Id : 48558436629 Question Type : MCQ Option Shuffling : No Is Question Mandatory : No Calculator : None Response Time : N.A Think Time : N.A Minimum Instruction Time : 0

Correct Marks : 5 Wrong Marks : 1

Question Key Details :

Key	Value
Comprehension	Comp1

اعلیٰ پرائمری سطح پر بچوں کو اس بات میں مصروف کیا جاتا ہے کہ وہ مماثل تجربات کے ذریعہ سائنسی اصول سیکھیں اپنے ہاتھ سے آسان تکنالوجکل اکائی اور ماڈیول ڈیزائن کریں نیز سروے اور سرگرمیوں کے ذریعہ ماحول اور صحت سے متعلق مزید جانکاری حاصل کریں۔ سائنس کے استاد ہونے کے ناطے آپ اس بات سے اتفاق کریں گے کہ سائنسی نظریات کو بہتر طور پر سیکھا جا سکتا ہے اگر متعلم انہیں تجربات اور سرگرمیوں کے ذریعہ سیکھے۔ طالب علم کو اس بات کا موقع دینا چاہئے کہ وہ اپنے روز مرہ کے تجربات سے سائنس دریافت کرے۔ آپ بچوں کو (ترجیحاً جماعت میں) معنی خیز تلاش و تفتیش میں مصروف کریں اور خاص طور سے ان مسائل پر توجہ دیں جنہیں وہ اہم اور قابل اعتنا سمجھتے ہوں۔

سائنس کے استاد ہونے کی حیثیت سے آپ استاد اور ہم عمر بچوں سے بات چیت کرنے کو بڑھاوا دینا چاہئے۔ آپ ان سے کہیں کہ وہ اخبارات اور پاس پڑوس کے جانکار لوگوں سے حقائق جمع کرے یا کسی بھی ایسی جگہ سے جہاں یہ باسانی موجود ہوں اور ان جمع کیے گئے حقائق پر کلاسوں میں ہم عمر والے بچوں اور اساتذہ سے بحث و مباحثہ کریں۔

کردار کی ادائیگی اور تعاون پر مبنی تعلیم کو اپنا کر بڑی شراکت اور تعلیمی نائنٹج کو یقینی بنانا چاہیے۔ اس سلسلے میں موجدین اور سائنس دان کے سوانحی قصوں کا بیانا کرنا بھی مفید ہے۔ یہ بات دھیان میں رہے کہ سائنس کی عملی صلاحیت جاری و ساری رہے۔

مندرجہ ذیل میں کس کا مقصد مادہ فہم کے تخلیقی عمل (creating cognitive process domain) سے متعلق ہے؟

1. ایک آسان سا تارچ بنانا
2. اس بات کی توضیح کرنا کہ ایک بلب کیسے جلتا ہے
3. تارچ کیلیے مناسب بیٹری کا انتخاب
4. بجلی کے بہاؤ کی جہت کو دکھانا

Options :

485584146513. 1
485584146514. 2
485584146515. 3
485584146516. 4

Question Number : 245 Question Id : 48558436630 Question Type : MCQ Option Shuffling : No Is Question Mandatory : No Calculator : None Response Time : N.A Think Time : N.A Minimum Instruction Time : 0

Correct Marks : 5 Wrong Marks : 1

Question Key Details :

Key	Value
Comprehension	Comp1

At the upper primary level, the emphasis is on engaging the learner in learning principles of science through familiar experiences, working with hands to design simple technological units and modules and continuing to learn more on environment and health through activities and surveys.

As a science teacher, you will agree that scientific concepts are learnt better if learners explore them through activities and experiments. Learners should be given opportunity to explore science in their everyday experiences. You should engage learners (preferably in groups) in meaningful investigations - particularly of the problems they perceive to be significant and important.

As a science teacher, you should encourage discussions with the teacher and peers. You can ask your learners to gather information from newspapers, knowledgeable persons in the neighborhood, and from easily available sources and discuss about them in class with peers and teachers.

Role play, skits, cooperative learning strategies should be adopted to ensure larger participation and sharing of learning outcomes. It is advised that biographical narratives of scientists and inventors can be used. You should keep in mind that efforts should be continued for development of the process skills of science.

Which among the following is a teacher-centered objective?

1. Children identify different types of nutrition in plants.
2. Children explain various methods of getting nutrition in plants.
3. Teachers show images of autotrophic and heterotrophic nutrition
4. Teachers explain the definition of nutrition and make students memorize it.

Options :

- 485584146517. 1
- 485584146518. 2
- 485584146519. 3
- 485584146520. 4

Question Number : 245 Question Id : 48558436630 Question Type : MCQ Option Shuffling : No Is Question Mandatory : No Calculator : None Response Time : N.A Think Time : N.A Minimum Instruction Time : 0

Correct Marks : 5 Wrong Marks : 1

Question Key Details :

Key	Value
Comprehension	Comp1

اعلیٰ پرائمری سطح پر بچوں کو اس بات میں مصروف کیا جاتا ہے کہ وہ مماثل تجربات کے ذریعہ سائنسی اصول سیکھیں اپنے ہاتھ سے آسان تکنالوجکل اکائی اور ماڈیول ڈیزائن کریں نیز سروے اور سرگرمیوں کے ذریعہ ماحول اور صحت سے متعلق مزید جانکاری حاصل کریں۔ سائنس کے استاد ہونے کے ناطے آپ اس بات سے اتفاق کریں گے کہ سائنسی نظریات کو بہتر طور پر سیکھا جا سکتا ہے اگر متعلم انہیں تجربات اور سرگرمیوں کے ذریعہ سیکھے۔ طالب علم کو اس بات کا موقع دینا چاہئے کہ وہ اپنے روز مرہ کے تجربات سے سائنس دریافت کرے۔ آپ بچوں کو (ترجیحاً جماعت میں) معنی خیز تلاش و تفتیش میں مصروف کریں اور خاص طور سے ان مسائل پر توجہ دیں جنہیں وہ اہم اور قابل اعتنا سمجھتے ہوں۔

سائنس کے استاد ہونے کی حیثیت سے آپ استاد اور ہم عمر بچوں سے بات چیت کرنے کو بڑھاوا دینا چاہئے۔ آپ ان سے کہیں کہ وہ اخبارات اور پاس پڑوس کے جانکار لوگوں سے حقائق جمع کرے یا کسی بھی ایسی جگہ سے جہاں یہ باسانی موجود ہوں اور ان جمع کیے گئے حقائق پر کلاسوں میں ہم عمر والے بچوں اور اساتذہ سے بحث و مباحثہ کریں۔

کردار کی ادائیگی اور تعاون پر مبنی تعلیم کو اپنا کر بڑی شراکت اور تعلیمی نائنج کو یقینی بنانا چاہیے۔ اس سلسلے میں موجدین اور سائنس دان کے سوانحی قصوں کا بیانا کرنا بھی مفید ہے۔ یہ بات دھیان میں رہے کہ سائنس کی عملی صلاحیت جاری و ساری رہے۔

مندرجہ ذیل میں کون استاد مرکز مقصد ہے؟

1. بچے پودے میں مختلف طرح کے تغذیہ کی شناخت کریں۔
2. بچے پودے میں پائے جانے والے مختلف طرح کے تغذیہ کو حاصل کرنے کے طریقہ کی توضیح کریں۔
3. استاد بچے کو آٹوٹروفک (خود سے تغذیہ بنانے والے) تغذیہ اور ہیٹروٹروفک (دوسرے کے بنائے ہوئے تغذیہ پر منحصر) تغذیہ کی تصاویر دکھائیں۔
4. استاد بچے کو تغذیہ کی تعریف بتائے اور انہیں یاد کروائے۔

Options :

485584146517. 1
485584146518. 2
485584146519. 3
485584146520. 4

Sub-Section Number :

3

Sub-Section Id :

4855842704

Question Shuffling Allowed :

No

Is Section Default? :

null

Question Number : 246 Question Id : 48558436631 Question Type : MCQ Option Shuffling : No Is Question Mandatory : No Calculator : None Response Time : N.A Think Time : N.A Minimum Instruction Time : 0

Correct Marks : 5 Wrong Marks : 1

Question Key Details :

Key	Value
Comprehension	Comp2

The spider's web occupies a much larger space than does the animal itself. The web represents the spider's field of action in acting as a trap for insects. It is constructed according to a plan. A thread secreted by the spider joins two branches, two rocks, two supports of any kind; then he weaves the rays. The construction proceeds according to a plan. Finally the spider weaves the thread around the center, going around at an always very carefully calculated distance. If the points of support are close together, the web is small. The greater the distance of one from the other, the larger the web will be. But it will always be woven with the same exactness according to a precise plan.

As is the web, so is the mind of the child constructed according to an exact plan. The abstract construction enables him to grasp what happens in his field, which was out of his range heretofore.

Depending on whether the child lives in a simple civilisation or in a complicated world, his web will be more or less large and will enable him to attain more or fewer objectives.

This is why we must respect the interior construction and its manifestations, which may at times seem useless to us. The construction is necessary. It is thanks to this work that the child enlarges his psychic field and subsequently his receptive powers.

To consider the school as the place where instruction is given is one point of view. But to consider the school as a preparation for life is another. In the latter case the school must satisfy all the needs of life.

An education that suppresses the true nature of the child is an education that leads to the development of anomalies.

Scouting, which, outside of school, has brought an organised form of life to children, has therefore always interested us.

According to the passage, what is the significance of a spider's web to a child's education?

1. Education must be spread out in all domains.
2. Field-based learning is a crucial aspect of education.
3. The administrative web poses an impediment to education.
4. A child's mind is also constructed like a web.

Options :

- 485584146521. 1
- 485584146522. 2
- 485584146523. 3
- 485584146524. 4

Question Number : 246 Question Id : 48558436631 Question Type : MCQ Option Shuffling : No Is Question Mandatory : No Calculator : None Response Time : N.A Think Time : N.A Minimum Instruction Time : 0

Correct Marks : 5 Wrong Marks : 1

Question Key Details :

Key	Value
Comprehension	Comp2

مکڑے کی جالی خود مکڑے سے کہیں زیادہ جگہ پر مشتمل ہوتی ہے۔ یہ جالی کیڑے مکوڑے کو پھانسنے کیلئے مکرے کے میدان عمل کی نمائندگی کرتی ہے۔ یہ نہایت منصوبہ بند طریقے سے بنائی جاتی ہے۔ مکڑا ایک دھاگہ خارج کرتا ہے جو کسی بھی قسم کے دو ٹھوس سہارے اور دو شاخوں کو پکڑ لیتا ہے پھر جالی بننا شروع کرتا ہے۔ یہ بنائی پورے منصوبہ بندی کے ساتھ آگے بڑھتی ہے اور آخر کار مکڑا مرکز کے ارد گرد بُنائی کرتا ہے جو کہ وہ نہایت غور و فکر کے ساتھ دوری کا حساب لگا کر انجام دیتا ہے اگر سہارے کے نقطے قریب قریب ہوں تو خالی چھوٹی ہوگی۔ جالی کی مسافت ایک دوسرے سے جتنی زیادہ دوری پر ہوگی جالی اتنی ہی بڑی ہوگی لیکن یہ اسی منصوبہ بندی کے ساتھ انجام پذیر ہوگا۔ جس طرح مکڑی کا جالا ہوتا ہے بالکل اسی منصوبہ بندی کے ساتھ بچے کا دماغ بھی بنا ہوتا ہے۔ تجربی ساخت بچے کو اس قابل بناتا ہے کہ اب وہ اس چیز کو پکڑ لے جو اس دائرہ عمل میں واقع ہو جب کہ اس سے پہلے وہ چیز اس کے دائرے سے باہر تھا۔ بچے کا سیدھی سادھی تہذیب یا پیچیدہ دنیا میں رہنا اس بات کا فیصلہ کرتا ہے کہ بچہ کی دماغی جالی چھوٹی ہوگی یا بڑی اور اسے قابل بنائے گا کہ وہ چھوٹی چھوٹی چیزوں کو پکڑے یا پھر بڑی بڑی چیزوں کو۔

اسی لیے ہمیں اندرونی ساخت اور اس کے ظہور کی عزت کرنی چاہیے جو ہمیں ایک وقت بے کار لگنے لگتی ہے۔ دماغی ساخت نہایت ضروری ہے اور یہ اس عمل کی وجہ سے ہوتا ہے جسے بچہ اپنے سائیکس میدان اور جذبی طاقت کو عمل میں لا کر انجام دیتا ہے۔ اسکول کو ایسی جگہ خیال کرنا جہاں ایک خاص نظریہ سے سکھانے کا عمل انجام دیا جاتا ہے لیکن اسکول کو زندگی کیلئے تیار کرنے والی جگہ خیال کرنے کی الگ ہے دوسرے قضیے میں اسکول زندگی کے تمام ضروریات کو یقینی بنائے گا۔ جو نظام تعلیم بچوں کو حقیقی نیچر کو دباتا ہے یقیناً وہ نظام بے ضابطگیوں کی ترقی کا سبب بنتا ہے۔

اسکول سے باہر اسکاؤٹنگ جو بچوں کے لیے منظم زندگی کی شکل کو پیش کرتا ہے، اس نے ہمیشہ دل چسپی کا سامان پیدا کیا ہے۔

اقتباس کی روشنی میں بچے کی تعلیم میں مکڑی کے جالے کی کیا اہمیت ہے؟

1. تعلیم تمام دائروں میں پھیلائی جانی چاہیے۔
2. زمینی سطح پر مشتمل تعلیم، نظام تعلیم کی سب سے اہم خصوصیت ہے۔
3. انتظامی امور کی جالی web نظام تعلیم کی سب سے بڑی رکاوٹ ہے۔
4. بچے کا دماغ مکڑے کی جالی جیسا بنا ہوتا ہے۔

Options :

1. 485584146521.
2. 485584146522.
3. 485584146523.
4. 485584146524.

Question Number : 247 Question Id : 48558436632 Question Type : MCQ Option Shuffling : No Is Question Mandatory : No Calculator : None Response Time : N.A Think Time : N.A Minimum Instruction Time : 0

Correct Marks : 5 Wrong Marks : 1

Question Key Details :

Key	Value
Comprehension	Comp2

The spider's web occupies a much larger space than does the animal itself. The web represents the spider's field of action in acting as a trap for insects. It is constructed according to a plan. A thread secreted by the spider joins two branches, two rocks, two supports of any kind; then he weaves the rays. The construction proceeds according to a plan. Finally the spider weaves the thread around the center, going around at an always very carefully calculated distance. If the points of support are close together, the web is small. The greater the distance of one from the other, the larger the web will be. But it will always be woven with the same exactness according to a precise plan.

As is the web, so is the mind of the child constructed according to an exact plan. The abstract construction enables him to grasp what happens in his field, which was out of his range heretofore.

Depending on whether the child lives in a simple civilisation or in a complicated world, his web will be more or less large and will enable him to attain more or fewer objectives.

This is why we must respect the interior construction and its manifestations, which may at times seem useless to us. The construction is necessary. It is thanks to this work that the child enlarges his psychic field and subsequently his receptive powers.

To consider the school as the place where instruction is given is one point of view. But to consider the school as a preparation for life is another. In the latter case the school must satisfy all the needs of life.

An education that suppresses the true nature of the child is an education that leads to the development of anomalies.

Scouting, which, outside of school, has brought an organised form of life to children, has therefore always interested us.

Construction of child's mind is:

1. Independent of his context
2. dependent on school's context only
3. dependent on his context
4. dependent on his family's context only

Options :

485584146525. 1

485584146526. 2

485584146527. 3

485584146528. 4

Question Number : 247 Question Id : 48558436632 Question Type : MCQ Option Shuffling : No Is Question Mandatory : No Calculator : None Response Time : N.A Think Time : N.A Minimum Instruction Time : 0

Correct Marks : 5 Wrong Marks : 1

Question Key Details :

Key	Value
Comprehension	Comp2

مکڑے کی جالی خود مکڑے سے کہیں زیادہ جگہ پر مشتمل ہوتی ہے۔ یہ جالی کیڑے مکوڑے کو پھانسنے کیلئے مکرے کے میدان عمل کی نمائندگی کرتی ہے۔ یہ نہایت منصوبہ بند طریقے سے بنائی جاتی ہے۔ مکڑا ایک دھاگہ خارج کرتا ہے جو کسی بھی قسم کے دو ٹھوس سہارے اور دو شاخوں کو پکڑ لیتا ہے پھر جالی بننا شروع کرتا ہے۔ یہ بنائی پورے منصوبہ بندی کے ساتھ آگے بڑھتی ہے اور آخر کار مکڑا مرکز کے ارد گرد بنائی کرتا ہے جو کہ وہ نہایت غور و فکر کے ساتھ دوری کا حساب لگا کر انجام دیتا ہے اگر سہارے کے نقطے قریب قریب ہوں تو خالی چھوٹی ہوگی۔ جالی کی مسافت ایک دوسرے سے جتنی زیادہ دوری پر ہوگی جالی اتنی ہی بڑی ہوگی لیکن یہ اسی منصوبہ بندی کے ساتھ انجام پذیر ہوگا۔ جس طرح مکڑی کا جالا ہوتا ہے بالکل اسی منصوبہ بندی کے ساتھ بچے کا دماغ بھی بنا ہوتا ہے۔ تجربی ساخت بچے کو اس قابل بناتا ہے کہ اب وہ اس چیز کو پکڑ لے جو اس دائرہ عمل میں واقع ہو جب کہ اس سے پہلے وہ چیز اس کے دائرے سے باہر تھا۔ بچے کا سیدھی سادھی تہذیب یا پیچیدہ دنیا میں رہنا اس بات کا فیصلہ کرتا ہے کہ بچہ کی دماغی جالی چھوٹی ہوگی یا بڑی اور اسے قابل بنائے گا کہ وہ چھوٹی چھوٹی چیزوں کو پکڑے یا پھر بڑی بڑی چیزوں کو۔

اسی لیے ہمیں اندرونی ساخت اور اس کے ظہور کی عزت کرنی چاہیے جو ہمیں ایک وقت بے کار لگنے لگتی ہے۔ دماغی ساخت نہایت ضروری ہے اور یہ اس عمل کی وجہ سے ہوتا ہے جسے بچہ اپنے سائیکس میدان اور جذبی طاقت کو عمل میں لا کر انجام دیتا ہے۔ اسکول کو ایسی جگہ خیال کرنا جہاں ایک خاص نظریہ سے سکھانے کا عمل انجام دیا جاتا ہے لیکن اسکول کو زندگی کیلئے تیار کرنے والی جگہ خیال کرنے کی الگ ہے دوسرے قضیے میں اسکول زندگی کے تمام ضروریات کو یقینی بنائے گا۔ جو نظام تعلیم بچوں کو حقیقی نیچر کو دہاتا ہے یقیناً وہ نظام بے ضابطگیوں کی ترقی کا سبب بنتا ہے۔

اسکول سے باہر اسکاؤٹنگ جو بچوں کے لیے منظم زندگی کی شکل کو پیش کرتا ہے، اس نے ہمیشہ دل چسپی کا سامان پیدا کیا ہے۔

بچوں کے دماغ کی بناوٹ ہوتی ہی ہے:

1. اس کے ارد گرد سے آزاد
2. صرف اسکول کے ارد گرد ارد پر مبنی
3. اس کے ارد گرد سے پر مبنی
4. اس کی فیملی کے ارد گرد پر مبنی

Options :

485584146525. 1
485584146526. 2
485584146527. 3
485584146528. 4

Question Number : 248 Question Id : 48558436633 Question Type : MCQ Option Shuffling : No Is Question Mandatory : No Calculator : None Response Time : N.A Think Time : N.A Minimum Instruction Time : 0

Correct Marks : 5 Wrong Marks : 1

Question Key Details :

Key	Value
Comprehension	Comp2

The spider's web occupies a much larger space than does the animal itself. The web represents the spider's field of action in acting as a trap for insects. It is constructed according to a plan. A thread secreted by the spider joins two branches, two rocks, two supports of any kind; then he weaves the rays. The construction proceeds according to a plan. Finally the spider weaves the thread around the center, going around at an always very carefully calculated distance. If the points of support are close together, the web is small. The greater the distance of one from the other, the larger the web will be. But it will always be woven with the same exactness according to a precise plan.

As is the web, so is the mind of the child constructed according to an exact plan. The abstract construction enables him to grasp what happens in his field, which was out of his range heretofore.

Depending on whether the child lives in a simple civilisation or in a complicated world, his web will be more or less large and will enable him to attain more or fewer objectives.

This is why we must respect the interior construction and its manifestations, which may at times seem useless to us. The construction is necessary. It is thanks to this work that the child enlarges his psychic field and subsequently his receptive powers.

To consider the school as the place where instruction is given is one point of view. But to consider the school as a preparation for life is another. In the latter case the school must satisfy all the needs of life.

An education that suppresses the true nature of the child is an education that leads to the development of anomalies.

Scouting, which, outside of school, has brought an organised form of life to children, has therefore always interested us.

According to the passage, what should be the aim of education?

1. Nurture the true nature of a child.
2. Overpower the interior construction of a child's mind.
3. Restrict a child's psychic field and promote scientific temperament.
4. Provide instruction and enable the child's participation in the economy.

Options :

485584146529. 1

485584146530. 2

485584146531. 3

485584146532. 4

Question Number : 248 Question Id : 48558436633 Question Type : MCQ Option Shuffling : No Is Question Mandatory : No Calculator : None Response Time : N.A Think Time : N.A Minimum Instruction Time : 0

Correct Marks : 5 Wrong Marks : 1

Question Key Details :

Key	Value
Comprehension	Comp2

مکڑے کی جالی خود مکڑے سے کہیں زیادہ جگہ پر مشتمل ہوتی ہے۔ یہ جالی کیڑے مکوڑے کو پھانسنے کیلئے مکرے کے میدان عمل کی نمائندگی کرتی ہے۔ یہ نہایت منصوبہ بند طریقے سے بنائی جاتی ہے۔ مکڑا ایک دھاگہ خارج کرتا ہے جو کسی بھی قسم کے دو ٹھوس سہارے اور دو شاخوں کو پکڑ لیتا ہے پھر جالی بننا شروع کرتا ہے۔ یہ بنائی پورے منصوبہ بندی کے ساتھ آگے بڑھتی ہے اور آخر کار مکڑا مرکز کے ارد گرد بُنائی کرتا ہے جو کہ وہ نہایت غور و فکر کے ساتھ دوری کا حساب لگا کر انجام دیتا ہے اگر سہارے کے نقطے قریب قریب ہوں تو خالی چھوٹی ہوگی۔ جالی کی مسافت ایک دوسرے سے جتنی زیادہ دوری پر ہوگی جالی اتنی ہی بڑی ہوگی لیکن یہ اسی منصوبہ بندی کے ساتھ انجام پذیر ہوگا۔ جس طرح مکڑی کا جالا ہوتا ہے بالکل اسی منصوبہ بندی کے ساتھ بچے کا دماغ بھی بنا ہوتا ہے۔ تجربی ساخت بچے کو اس قابل بناتا ہے کہ اب وہ اس چیز کو پکڑ لے جو اس دائرہ عمل میں واقع ہو جب کہ اس سے پہلے وہ چیز اس کے دائرے سے باہر تھا۔ بچے کا سیدھی سادھی تہذیب یا پیچیدہ دنیا میں رہنا اس بات کا فیصلہ کرتا ہے کہ بچہ کی دماغی جالی چھوٹی ہوگی یا بڑی اور اسے قابل بنائے گا کہ وہ چھوٹی چھوٹی چیزوں کو پکڑے یا پھر بڑی بڑی چیزوں کو۔

اسی لیے ہمیں اندرونی ساخت اور اس کے ظہور کی عزت کرنی چاہیے جو ہمیں ایک وقت بے کار لگنے لگتی ہے۔ دماغی ساخت نہایت ضروری ہے اور یہ اس عمل کی وجہ سے ہوتا ہے جسے بچہ اپنے سائیکی میدان اور جذبی طاقت کو عمل میں لا کر انجام دیتا ہے۔ اسکول کو ایسی جگہ خیال کرنا جہاں ایک خاص نظریہ سے سکھانے کا عمل انجام دیا جاتا ہے لیکن اسکول کو زندگی کیلئے تیار کرنے والی جگہ خیال کرنے کی الگ ہے دوسرے قضیے میں اسکول زندگی کے تمام ضروریات کو یقینی بنائے گا۔ جو نظام تعلیم بچوں کو حقیقی نیچر کو دہاتا ہے یقیناً وہ نظام بے ضابطگیوں کی ترقی کا سبب بنتا ہے۔

اسکول سے باہر اسکاؤٹنگ جو بچوں کے لیے منظم زندگی کی شکل کو پیش کرتا ہے، اس نے ہمیشہ دل چسپی کا سامان پیدا کیا ہے۔

اقتباس کے مطابق تعلیم کا مقصد کیا ہونا چاہیے؟

1. بچے کے حقیقی رویے کی نشوونما
2. بچے کے دماغ کے اندرونی ساخت کو تقویت بخشنا
3. بچے کے سائیکی (psychic) میدان کی روک تھام اور سائنسی مزاج کی ترقی
4. ہدایت دینا اور معاش میں بچوں کی حصہ داری کو یقینی بنانا

Options :

485584146529. 1
485584146530. 2
485584146531. 3
485584146532. 4

Question Number : 249 Question Id : 48558436634 Question Type : MCQ Option Shuffling : No Is Question Mandatory : No Calculator : None Response Time : N.A Think Time : N.A Minimum Instruction Time : 0

Correct Marks : 5 Wrong Marks : 1

Question Key Details :

Key	Value
Comprehension	Comp2

The spider's web occupies a much larger space than does the animal itself. The web represents the spider's field of action in acting as a trap for insects. It is constructed according to a plan. A thread secreted by the spider joins two branches, two rocks, two supports of any kind; then he weaves the rays. The construction proceeds according to a plan. Finally the spider weaves the thread around the center, going around at an always very carefully calculated distance. If the points of support are close together, the web is small. The greater the distance of one from the other, the larger the web will be. But it will always be woven with the same exactness according to a precise plan.

As is the web, so is the mind of the child constructed according to an exact plan. The abstract construction enables him to grasp what happens in his field, which was out of his range heretofore.

Depending on whether the child lives in a simple civilisation or in a complicated world, his web will be more or less large and will enable him to attain more or fewer objectives.

This is why we must respect the interior construction and its manifestations, which may at times seem useless to us. The construction is necessary. It is thanks to this work that the child enlarges his psychic field and subsequently his receptive powers.

To consider the school as the place where instruction is given is one point of view. But to consider the school as a preparation for life is another. In the latter case the school must satisfy all the needs of life.

An education that suppresses the true nature of the child is an education that leads to the development of anomalies.

Scouting, which, outside of school, has brought an organised form of life to children, has therefore always interested us.

In the author's view, what does a limited perspective of education do to a child?

1. Enables him to grasp concepts easily.
2. Helps him to attain more objectives.
3. Suppresses his true nature.
4. Encourages his thinking abilities.

Options :

- 485584146533. 1
- 485584146534. 2
- 485584146535. 3
- 485584146536. 4

Question Number : 249 Question Id : 48558436634 Question Type : MCQ Option Shuffling : No Is Question Mandatory : No Calculator : None Response Time : N.A Think Time : N.A Minimum Instruction Time : 0

Correct Marks : 5 Wrong Marks : 1

Question Key Details :

Key	Value
Comprehension	Comp2

مکڑے کی جالی خود مکڑے سے کہیں زیادہ جگہ پر مشتمل ہوتی ہے۔ یہ جالی کیڑے مکوڑے کو پھانسنے کیلئے مکرے کے میدان عمل کی نمائندگی کرتی ہے۔ یہ نہایت منصوبہ بند طریقے سے بنائی جاتی ہے۔ مکڑا ایک دھاگہ خارج کرتا ہے جو کسی بھی قسم کے دو ٹھوس سہارے اور دو شاخوں کو پکڑ لیتا ہے پھر جالی بننا شروع کرتا ہے۔ یہ بنائی پورے منصوبہ بندی کے ساتھ آگے بڑھتی ہے اور آخر کار مکڑا مرکز کے ارد گرد بُنائی کرتا ہے جو کہ وہ نہایت غور و فکر کے ساتھ دوری کا حساب لگا کر انجام دیتا ہے اگر سہارے کے نپٹے قریب قریب ہوں تو خالی چھوٹی ہوگی۔ جالی کی مسافت ایک دوسرے سے جتنی زیادہ دوری پر ہوگی جالی اتنی ہی بڑی ہوگی لیکن یہ اسی منصوبہ بندی کے ساتھ انجام پذیر ہوگا۔ جس طرح مکڑی کا جالا ہوتا ہے بالکل اسی منصوبہ بندی کے ساتھ بچے کا دماغ بھی بنا ہوتا ہے۔ تجربی ساخت بچے کو اس قابل بناتا ہے کہ اب وہ اس چیز کو پکڑ لے جو اس دائرہ عمل میں واقع ہو جب کہ اس سے پہلے وہ چیز اس کے دائرے سے باہر تھا۔ بچے کا سیدھی سادھی تہذیب یا پیچیدہ دنیا میں رہنا اس بات کا فیصلہ کرتا ہے کہ بچہ کی دماغی جالی چھوٹی ہوگی یا بڑی اور اسے قابل بنائے گا کہ وہ چھوٹی چھوٹی چیزوں کو پکڑے یا پھر بڑی بڑی چیزوں کو۔

اسی لیے ہمیں اندرونی ساخت اور اس کے ظہور کی عزت کرنی چاہیے جو ہمیں ایک وقت بے کار لگنے لگتی ہے۔ دماغی ساخت نہایت ضروری ہے اور یہ اس عمل کی وجہ سے ہوتا ہے جسے بچہ اپنے سائیکس میدان اور جذبی طاقت کو عمل میں لا کر انجام دیتا ہے۔ اسکول کو ایسی جگہ خیال کرنا جہاں ایک خاص نظریہ سے سکھانے کا عمل انجام دیا جاتا ہے لیکن اسکول کو زندگی کیلئے تیار کرنے والی جگہ خیال کرنے کی الگ ہے دوسرے قضیے میں اسکول زندگی کے تمام ضروریات کو یقینی بنائے گا۔ جو نظام تعلیم بچوں کو حقیقی نیچر کو دباتا ہے یقیناً وہ نظام بے ضابطگیوں کی ترقی کا سبب بنتا ہے۔

اسکول سے باہر اسکاؤٹنگ جو بچوں کے لیے منظم زندگی کی شکل کو پیش کرتا ہے، اس نے ہمیشہ دل چسپی کا سامان پیدا کیا ہے۔

مصنف کی رائے کے مطابق تعلیم کا ایک محدود نظریہ بچوں کے ساتھ کیا کرتا ہے؟

1. اسے اس قابل بناتا ہے کہ وہ نظریات باآسانی یاد کر لے۔
2. اور زیادہ مقاصد کے حصول میں مددگار ثابت ہوتا ہے۔
3. اس کے حقیقی رویہ کو دباتا ہے۔
4. اس کے فکری صلاحیت کو ابھارتا ہے۔

Options :

485584146533. 1
485584146534. 2
485584146535. 3
485584146536. 4

Question Number : 250 Question Id : 48558436635 Question Type : MCQ Option Shuffling : No Is Question Mandatory : No Calculator : None Response Time : N.A Think Time : N.A Minimum Instruction Time : 0

Correct Marks : 5 Wrong Marks : 1

Question Key Details :

Key	Value
Comprehension	Comp2

The spider's web occupies a much larger space than does the animal itself. The web represents the spider's field of action in acting as a trap for insects. It is constructed according to a plan. A thread secreted by the spider joins two branches, two rocks, two supports of any kind; then he weaves the rays. The construction proceeds according to a plan. Finally the spider weaves the thread around the center, going around at an always very carefully calculated distance. If the points of support are close together, the web is small. The greater the distance of one from the other, the larger the web will be. But it will always be woven with the same exactness according to a precise plan.

As is the web, so is the mind of the child constructed according to an exact plan. The abstract construction enables him to grasp what happens in his field, which was out of his range heretofore.

Depending on whether the child lives in a simple civilisation or in a complicated world, his web will be more or less large and will enable him to attain more or fewer objectives.

This is why we must respect the interior construction and its manifestations, which may at times seem useless to us. The construction is necessary. It is thanks to this work that the child enlarges his psychic field and subsequently his receptive powers.

To consider the school as the place where instruction is given is one point of view. But to consider the school as a preparation for life is another. In the latter case the school must satisfy all the needs of life.

An education that suppresses the true nature of the child is an education that leads to the development of anomalies.

Scouting, which, outside of school, has brought an organised form of life to children, has therefore always interested us.

Which of the following are characteristics of the construction of a child's mind ?

- A. Moving outside the school restricts a child's mind.
- B. A child's mind is constructed according to a precise plan.
- C. Organisation of a child's mind may affect its receptive abilities.
- D. Inhibiting a child's true nature can lead to the development of abnormality.
- E. Concrete construction enables it to access different kinds of knowledge.

Choose the correct answer from the options given below:

- 1. A, C and D only
- 2. A, B and C only
- 3. B, C and D only
- 4. B, C, D and E only

Options :

- 485584146537. 1
- 485584146538. 2
- 485584146539. 3
- 485584146540. 4

Correct Marks : 5 Wrong Marks : 1

Question Key Details :

Key	Value
Comprehension	Comp2

مکڑے کی جالی خود مکڑے سے کہیں زیادہ جگہ پر مشتمل ہوتی ہے۔ یہ جالی کیڑے مکوڑے کو پھانسنے کیلئے مکرے کے میدان عمل کی نمائندگی کرتی ہے۔ یہ نہایت منصوبہ بند طریقے سے بنائی جاتی ہے۔ مکڑا ایک دھاگہ خارج کرتا ہے جو کسی بھی قسم کے دو ٹھوس سہارے اور دو شاخوں کو پکڑ لیتا ہے پھر جالی بننا شروع کرتا ہے۔ یہ بنائی پورے منصوبہ بندی کے ساتھ آگے بڑھتی ہے اور آخر کار مکڑا مرکز کے ارد گرد بنائی کرتا ہے جو کہ وہ نہایت غور و فکر کے ساتھ دوری کا حساب لگا کر انجام دیتا ہے اگر سہارے کے نقطے قریب قریب ہوں تو خالی چھوٹی ہوگی۔ جالی کی مسافت ایک دوسرے سے جتنی زیادہ دوری پر ہوگی جالی اتنی ہی بڑی ہوگی لیکن یہ اسی منصوبہ بندی کے ساتھ انجام پذیر ہوگا۔ جس طرح مکڑی کا جالا ہوتا ہے بالکل اسی منصوبہ بندی کے ساتھ بچے کا دماغ بھی بنا ہوتا ہے۔ تجریدی ساخت بچے کو اس قابل بناتا ہے کہ اب وہ اس چیز کو پکڑ لے جو اس دائرہ عمل میں واقع ہو جب کہ اس سے پہلے وہ چیز اس کے دائرے سے باہر تھا۔ بچے کا سیدھی سادھی تہذیب یا پیچیدہ دنیا میں رہنا اس بات کا فیصلہ کرتا ہے کہ بچہ کی دماغی جالی چھوٹی ہوگی یا بڑی اور اسے قابل بنائے گا کہ وہ چھوٹی چھوٹی چیزوں کو پکڑے یا پھر بڑی بڑی چیزوں کو۔

اسی لیے ہمیں اندرونی ساخت اور اس کے ظہور کی عزت کرنی چاہیے جو ہمیں ایک وقت بے کار لگنے لگتی ہے۔ دماغی ساخت نہایت ضروری ہے اور یہ اس عمل کی وجہ سے ہوتا ہے جسے بچہ اپنے سائیکی میدان اور جذبی طاقت کو عمل میں لا کر انجام دیتا ہے۔ اسکول کو ایسی جگہ خیال کرنا جہاں ایک خاص نظریہ سے سکھانے کا عمل انجام دیا جاتا ہے لیکن اسکول کو زندگی کیلئے تیار کرنے والی جگہ خیال کرنے کی الگ ہے دوسرے قضیے میں اسکول زندگی کے تمام ضروریات کو یقینی بنائے گا، جو نظام تعلیم بچوں کو حقیقی نیچر کو دباتا ہے یقیناً وہ نظام ہے ضابطگیوں کی ترقی کا سبب بنتا ہے۔

اسکول سے باہر اسکاؤٹنگ جو بچوں کے لیے منظم زندگی کی شکل کو پیش کرتا ہے، اس نے ہمیشہ دل چسپی کا سامان پیدا کیا ہے۔

مندرجہ ذیل میں کون کون سے بچے کے دماغی ساخت کی خصوصیات ہیں؟

- اسکول سے باہر جانا بچوں کے دماغ میں رکاوٹ ڈالنا ہے۔
- باریک منصوبہ بند طریقہ سے بچوں کا دماغ تیار ہوتا ہے۔
- بچوں کے دماغ کی تنظیم ان کے جذبی صلاحیت کو متاثر کرتا ہے۔
- بچوں کے حقیقی رویہ کی روک تھام ان کی بے اعتدالیت کا سبب بن سکتا ہے۔
- مستحکم ذہن سازی اسے اس قابل بناتا ہے کہ وہ ہر طرح کے معلومات حاصل کر لے۔

مندرجہ ذیل انتخابات میں سے درست جواب کی نشان دہی کریں۔

- صرف A، C اور D
- صرف A، B اور C
- صرف B، C اور D
- صرف B، C، D اور E

Options :

485584146537. 1
485584146538. 2
485584146539. 3
485584146540. 4