

National Testing Agency

Question Paper Name : 22S3
Subject Name : 22Jun2023 Shift3 Subject Combination 1
Creation Date : 2023-06-22 20:03:07
Duration : 270
Total Marks : 1200
Display Marks: Yes

Tibetan

Group Number : 1
Group Id : 485584821
Group Maximum Duration : 45
Group Minimum Duration : 45
Show Attended Group? : No
Edit Attended Group? : No
Break time : 0
Group Marks : 200
Is this Group for Examiner? : No
Examiner permission : Cant View
Show Progress Bar? : No

Tibetan

Section Id : 485584945
Section Number : 1
Section type : Online
Mandatory or Optional : Mandatory
Number of Questions : 50
Number of Questions to be attempted : 40
Section Marks : 200
Enable Mark as Answered Mark for Review and Clear Response : Yes
Maximum Instruction Time : 0
Sub-Section Number : 1
Sub-Section Id : 4855842686
Question Shuffling Allowed : No
Is Section Default? : null
Sub-Section Number : 2
Sub-Section Id : 4855842687
Question Shuffling Allowed : No
Is Section Default? : null
Sub-Section Number : 3
Sub-Section Id : 4855842688
Question Shuffling Allowed : No
Is Section Default? : null
Sub-Section Number : 4
Sub-Section Id : 4855842689
Question Shuffling Allowed : Yes

Is Section Default? : null

Biology

Group Number : 2
Group Id : 485584822
Group Maximum Duration : 45
Group Minimum Duration : 45
Show Attended Group? : No
Edit Attended Group? : No
Break time : 0
Group Marks : 200
Is this Group for Examiner? : No
Examiner permission : Cant View
Show Progress Bar? : No

Biology

Section Id : 485584946
Section Number : 1
Section type : Online
Mandatory or Optional : Mandatory
Number of Questions : 50
Number of Questions to be attempted : 40
Section Marks : 200
Enable Mark as Answered Mark for Review and Clear Response : Yes
Maximum Instruction Time : 0
Sub-Section Number : 1
Sub-Section Id : 4855842690
Question Shuffling Allowed : Yes
Is Section Default? : null

Question Number : 1 Question Id : 48558436386 Question Type : MCQ Option Shuffling : No Is Question Mandatory : No Calculator : None Response Time : N.A Think Time : N.A Minimum Instruction Time : 0

Correct Marks : 5 Wrong Marks : 1

Question Key Details :

Key	Value
Comprehension	MCQ

Number of chromosomes found in rice gamete is:

1. 8
2. 10
3. 12
4. 14

Options :

485584145541. 1
485584145542. 2

485584145543. 3

485584145544. 4

Question Number : 1 Question Id : 48558436386 Question Type : MCQ Option Shuffling : No Is Question Mandatory : No Calculator : None Response Time : N.A Think Time : N.A Minimum Instruction Time : 0

Correct Marks : 5 Wrong Marks : 1

Question Key Details :

Key	Value
Comprehension	MCQ

ধানৰ জননকোষ বা গেমেটত পোৱা ক্রমজমৰ সংখ্যা হ'ল:

1. 8

2. 10

3. 12

4. 14

Options :

485584145541. 1

485584145542. 2

485584145543. 3

485584145544. 4

Question Number : 2 Question Id : 48558436387 Question Type : MCQ Option Shuffling : No Is Question Mandatory : No Calculator : None Response Time : N.A Think Time : N.A Minimum Instruction Time : 0

Correct Marks : 5 Wrong Marks : 1

Question Key Details :

Key	Value
Comprehension	MCQ

Match List I with List II

LIST I (Vegetative propagules)		LIST II (Example)	
A.	Leaf buds	I.	Water hyacinth
B.	Rhizome	II.	Agave
C.	Offset	III.	Ginger
D.	Bulbil	IV.	Bryophyllum

Choose the correct answer from the options given below:

1. A-III, B-IV, C-II, D-I

2. A-II, B-IV, C-I, D-III

3. A-IV, B-III, C-I, D-II

4. A-III, B-II, C-IV, D-I

Options :

485584145545. 1

485584145546. 2
485584145547. 3
485584145548. 4

Question Number : 2 Question Id : 48558436387 Question Type : MCQ Option Shuffling : No Is Question Mandatory :
No Calculator : None Response Time : N.A Think Time : N.A Minimum Instruction Time : 0

Correct Marks : 5 Wrong Marks : 1

Question Key Details :

Key	Value
Comprehension	MCQ

তালিকা I-ৰ সৈতে তালিকা II মিলোৱা:

তালিকা I (অঙ্গুজ প্ৰবৰ্দ্ধক)		তালিকা II (উদাহৰণ)	
A.	পত্ৰমুকুল	I.	পানীমেটেকা
B.	ৰাইজ'ম	II.	এগেভ
C.	জলধাৰক বা অক্লেট	III.	আদা
D.	প্ৰজনন কন্দিকা বা বুলবিল	IV.	ব্ৰায় ফাইলাম বা পাতেগজ্জা

এতিয়া তলত দিয়া বিকল্পবোৰৰপৰা শুদ্ধ উত্তৰটো বিচাৰি উলিওৱা:

1. A-III, B-IV, C-II, D-I
2. A-II, B-IV, C-I, D-III
3. A-IV, B-III, C-I, D-II
4. A-III, B-II, C-IV, D-I

Options :

485584145545. 1
485584145546. 2
485584145547. 3
485584145548. 4

Question Number : 3 Question Id : 48558436388 Question Type : MCQ Option Shuffling : No Is Question Mandatory :
No Calculator : None Response Time : N.A Think Time : N.A Minimum Instruction Time : 0

Correct Marks : 5 Wrong Marks : 1

Question Key Details :

Key	Value
Comprehension	MCQ

Residual and persistent nucellus present in some seeds is called:

1. Seed coat
2. Pericarp
3. Perisperm
4. Achene

Options :

485584145549. 1
485584145550. 2
485584145551. 3
485584145552. 4

Question Number : 3 Question Id : 48558436388 Question Type : MCQ Option Shuffling : No Is Question Mandatory : No Calculator : None Response Time : N.A Think Time : N.A Minimum Instruction Time : 0

Correct Marks : 5 Wrong Marks : 1

Question Key Details :

Key	Value
Comprehension	MCQ

কিহুমান বীজত উপস্থিত ধকা অৱশিষ্ট আৰু দীৰ্ঘস্থায়ী নিউছেলাছ বা বীজাণুকায়ক বোলা হয়:

1. বীজত্বক
2. ফলত্বক
3. পৰিস্ৰুণপোষক বা পেৰিস্পাৰ্ম
4. একিন

Options :

485584145549. 1
485584145550. 2
485584145551. 3
485584145552. 4

Question Number : 4 Question Id : 48558436389 Question Type : MCQ Option Shuffling : No Is Question Mandatory : No Calculator : None Response Time : N.A Think Time : N.A Minimum Instruction Time : 0

Correct Marks : 5 Wrong Marks : 1

Question Key Details :

Key	Value
Comprehension	MCQ

The wall layer which provides nourishment to the developing pollen grains is called:

1. Epidermis
2. Endothecium
3. Middle Layer
4. Tapetum

Options :

485584145553. 1
485584145554. 2
485584145555. 3
485584145556. 4

Question Number : 4 Question Id : 48558436389 Question Type : MCQ Option Shuffling : No Is Question Mandatory : No Calculator : None Response Time : N.A Think Time : N.A Minimum Instruction Time : 0

Correct Marks : 5 Wrong Marks : 1

Question Key Details :

Key	Value
Comprehension	MCQ

কোষবেৰৰ যিটো স্তৰে বিকাশশীল পৰাগৰেণুবোৰক পুষ্টিৰ যোগান ধৰে, তাক কোৱা হয়:

1. বহিস্তক বা অধিস্তৰ
2. অন্তঃস্তৰ বা অন্তঃস্তক
3. মধ্যস্তৰ বা মধ্যস্তক
4. টেপেটাম বা শোষক স্তৰ

Options :

485584145553. 1
485584145554. 2
485584145555. 3
485584145556. 4

Question Number : 5 Question Id : 48558436390 Question Type : MCQ Option Shuffling : No Is Question Mandatory : No Calculator : None Response Time : N.A Think Time : N.A Minimum Instruction Time : 0

Correct Marks : 5 Wrong Marks : 1

Question Key Details :

Key	Value
Comprehension	MCQ

Spermiation is the _____.

1. Process of release of sperms from the seminiferous tubules
2. Process of formation of sperms
3. Transformation of spermatids into sperms
4. Process of formation of spermatogonia

Options :

485584145557. 1
485584145558. 2
485584145559. 3
485584145560. 4

Question Number : 5 Question Id : 48558436390 Question Type : MCQ Option Shuffling : No Is Question Mandatory :
No Calculator : None Response Time : N.A Think Time : N.A Minimum Instruction Time : 0

Correct Marks : 5 Wrong Marks : 1

Question Key Details :

Key	Value
Comprehension	MCQ

স্পার্মিয়েছন হ'ল _____।

1. শুক্রবাহী নলিকাৰপৰা শুক্ৰগু নিৰ্গত হোৱা প্ৰক্ৰিয়া
2. শুক্ৰগু গঠন হোৱা প্ৰক্ৰিয়া
3. অপৈণত শুক্ৰকোষবোৰ (স্পাৰ্মাটিড) শুক্ৰগুলৈ কপান্তৰ হোৱা প্ৰক্ৰিয়া
4. স্পাৰ্মাট'গোনিয়া গঠন হোৱা প্ৰক্ৰিয়া

Options :

485584145557. 1
485584145558. 2
485584145559. 3
485584145560. 4

Question Number : 6 Question Id : 48558436391 Question Type : MCQ Option Shuffling : No Is Question Mandatory :
No Calculator : None Response Time : N.A Think Time : N.A Minimum Instruction Time : 0

Correct Marks : 5 Wrong Marks : 1

Question Key Details :

Key	Value
Comprehension	MCQ

Which of the following hormones are secreted by placenta?

- A. hCG
- B. hPL
- C. Estrogens
- D. Progestogens
- E. Relaxin

Choose the correct answer from the options given below:

1. A, B, and E only
2. A, B, C and E only
3. A, B, D and E only
4. A, B, C and D only

Options :

- 485584145561. 1
- 485584145562. 2
- 485584145563. 3
- 485584145564. 4

Question Number : 6 Question Id : 48558436391 Question Type : MCQ Option Shuffling : No Is Question Mandatory : No Calculator : None Response Time : N.A Think Time : N.A Minimum Instruction Time : 0

Correct Marks : 5 Wrong Marks : 1

Question Key Details :

Key	Value
Comprehension	MCQ

তলত দিয়া কোনবোৰ হ'ৰমোন প্লেছেণ্টা বা জ্বননফুলৰ (অপৰা) পৰা নিঃসৰিত হয়?

- A. hCG
- B. hPL
- C. ইষ্ট্ৰ'জেন
- D. প্ৰ'জেষ্ট'জেন
- E. বিলেঞ্জিন

এতিয়া তলত দিয়াবোৰৰপৰা শুদ্ধ বিকল্পটো বিচাৰি উলিওৱা:

1. কেৱল A, B আৰু E
2. কেৱল A, B, C আৰু E
3. কেৱল A, B, D আৰু E
4. কেৱল A, B, C আৰু D

Options :

- 485584145561. 1
- 485584145562. 2

485584145563. 3

485584145564. 4

Question Number : 7 Question Id : 48558436392 Question Type : MCQ Option Shuffling : No Is Question Mandatory : No Calculator : None Response Time : N.A Think Time : N.A Minimum Instruction Time : 0

Correct Marks : 5 Wrong Marks : 1

Question Key Details :

Key	Value
Comprehension	MCQ

Which of the following disease is completely curable if detected early?

1. Genital herpes
2. HIV infections
3. Hepatitis-B
4. Trichomoniasis

Options :

485584145565. 1

485584145566. 2

485584145567. 3

485584145568. 4

Question Number : 7 Question Id : 48558436392 Question Type : MCQ Option Shuffling : No Is Question Mandatory : No Calculator : None Response Time : N.A Think Time : N.A Minimum Instruction Time : 0

Correct Marks : 5 Wrong Marks : 1

Question Key Details :

Key	Value
Comprehension	MCQ

তলত উল্লেখ কৰা কোনবিধ বেমাৰ আৰম্ভণিতে ধৰা পেলাব পাৰিলে বোগীক সম্পূৰ্ণৰূপে আৰোগ্য কৰি তুলিব পৰা যায়?

1. জননাস্থৰ হাৰ্পিছ
2. HIV সংক্ৰমণ
3. হেপাটাইটিছ-B
4. ট্ৰাইক'ম'নিয়াছিছ

Options :

485584145565. 1

485584145566. 2

485584145567. 3

485584145568. 4

Question Number : 8 Question Id : 48558436393 Question Type : MCQ Option Shuffling : No Is Question Mandatory : No Calculator : None Response Time : N.A Think Time : N.A Minimum Instruction Time : 0

Correct Marks : 5 Wrong Marks : 1

Question Key Details :

Key	Value
Comprehension	MCQ

Identify the terminal methods to prevent pregnancy.

- A. Tubectomy
- B. Vasectomy
- C. IUDs
- D. Cervical caps

Choose the correct answer from the options given below:

- 1. A and D only
- 2. A and C only
- 3. B and D only
- 4. A and B only

Options :

- 485584145569. 1
- 485584145570. 2
- 485584145571. 3
- 485584145572. 4

Question Number : 8 Question Id : 48558436393 Question Type : MCQ Option Shuffling : No Is Question Mandatory : No Calculator : None Response Time : N.A Think Time : N.A Minimum Instruction Time : 0

Correct Marks : 5 Wrong Marks : 1

Question Key Details :

Key	Value
Comprehension	MCQ

তলত দিয়াবোৰৰপৰা গৰ্ভধাৰণ ৰোধ কৰাৰ চৰম বা টাৰ্মিনেল পদ্ধতিবোৰ চিনাক্ত কৰা।

- A. টিউবেক্টোমি বা ডিম্ববাহিকা কৰ্তন
- B. ভেছেক্টোমি বা শুক্ৰবাহিকা কৰ্তন
- C. অন্তঃজৰায়ু জননৰোধ যতন (IUD)
- D. জৰায়ু-শীৰাত টুপী স্থাপন

এতিয়া তলত দিয়াবোৰৰপৰা শুদ্ধ বিকল্পটো বিচাৰি উলিওৱা:

- 1. কেৱল A আৰু D
- 2. কেৱল A আৰু C
- 3. কেৱল B আৰু D
- 4. কেৱল A আৰু B

Options :

485584145569. 1
485584145570. 2
485584145571. 3
485584145572. 4

Question Number : 9 Question Id : 48558436394 Question Type : MCQ Option Shuffling : No Is Question Mandatory : No Calculator : None Response Time : N.A Think Time : N.A Minimum Instruction Time : 0

Correct Marks : 5 Wrong Marks : 1

Question Key Details :

Key	Value
Comprehension	MCQ

The person with karyotype $44+XXY$ is suffering from:

1. Down's Syndrome
2. Klinefelter's Syndrome
3. Turner's Syndrome
4. Edward's Syndrome

Options :

485584145573. 1
485584145574. 2
485584145575. 3
485584145576. 4

Question Number : 9 Question Id : 48558436394 Question Type : MCQ Option Shuffling : No Is Question Mandatory : No Calculator : None Response Time : N.A Think Time : N.A Minimum Instruction Time : 0

Correct Marks : 5 Wrong Marks : 1

Question Key Details :

Key	Value
Comprehension	MCQ

$44+XXY$ কেৰিঅ'টাইপ বা কেন্দ্ৰকপ্ৰকপযুক্ত ব্যক্তি এগৰাকী ভূগি আছে:

1. ডাউনৰ সংলক্ষণ বা ছিন্দ্ৰ'মত
2. ক্লেইনফেল্টাৰৰ সংলক্ষণ বা ছিন্দ্ৰ'মত
3. টাৰ্নাৰৰ সংলক্ষণ বা ছিন্দ্ৰ'মত
4. এডৱাৰ্ডৰ সংলক্ষণ বা ছিন্দ্ৰ'মত

Options :

485584145573. 1
485584145574. 2
485584145575. 3
485584145576. 4

Question Number : 10 Question Id : 48558436395 Question Type : MCQ Option Shuffling : No Is Question Mandatory : No Calculator : None Response Time : N.A Think Time : N.A Minimum Instruction Time : 0

Correct Marks : 5 Wrong Marks : 1

Question Key Details :

Key	Value
Comprehension	MCQ

Select the mendelian disorders from the following:

- A. Thalassemia
- B. Turner's Syndrome
- C. Cystic Fibrosis
- D. Sickle cell anaemia

Choose the *correct answer* from the options given below:

- 1. B and D only
- 2. A, C and D only
- 3. B, C and D only
- 4. A and D only

Options :

- 485584145577. 1
- 485584145578. 2
- 485584145579. 3
- 485584145580. 4

Question Number : 10 Question Id : 48558436395 Question Type : MCQ Option Shuffling : No Is Question Mandatory : No Calculator : None Response Time : N.A Think Time : N.A Minimum Instruction Time : 0

Correct Marks : 5 Wrong Marks : 1

Question Key Details :

Key	Value
Comprehension	MCQ

তলত দিয়াবোৰৰপৰা মেণ্ডেলীয় বিসংগতিবোৰ বিচাৰি উলিওৱা:

- A. থেলেছেমিয়া
- B. টাৰ্ণাৰৰ সংলক্ষণ বা ছিন্দ্ৰ'ম
- C. ছিষ্টিক ফাইব্ৰ'ছিছ
- D. কাঁচিকোষ ৰক্তাল্পতা (ছিকল্ ছেল এনিমিয়া)

এতিয়া তলত দিয়াবোৰৰপৰা শুদ্ধ বিকল্পটো বিচাৰি উলিওৱা:

- 1. কেৱল B আৰু D
- 2. কেৱল A, C আৰু D
- 3. কেৱল B, C আৰু D
- 4. কেৱল A আৰু D

Options :

- 485584145577. 1
- 485584145578. 2
- 485584145579. 3
- 485584145580. 4

Question Number : 11 Question Id : 48558436396 Question Type : MCQ Option Shuffling : No Is Question Mandatory : No Calculator : None Response Time : N.A Think Time : N.A Minimum Instruction Time : 0

Correct Marks : 5 Wrong Marks : 1

Question Key Details :

Key	Value
Comprehension	MCQ

Match List I with List II

LIST I		LIST II	
A.	Phenotype reflects the contribution of each allele	I.	Pleiotropy
B.	Multiple phenotypic expressions by a single gene	II.	Linkage
C.	Generation of non-parental gene combinations	III.	Polygenic inheritance
D.	Parental gene combinations higher than non-parental type in F_2 progeny	IV.	Recombination

Choose the correct answer from the options given below:

- 1. A-III, B-I, C-IV, D-II
- 2. A-I, B-IV, C-II, D-III
- 3. A-III, B-IV, C-I, D-II
- 4. A-I, B-III, C-II, D-IV

Options :

485584145581. 1
485584145582. 2
485584145583. 3
485584145584. 4

Question Number : 11 Question Id : 48558436396 Question Type : MCQ Option Shuffling : No Is Question Mandatory :
No Calculator : None Response Time : N.A Think Time : N.A Minimum Instruction Time : 0

Correct Marks : 5 Wrong Marks : 1

Question Key Details :

Key	Value
Comprehension	MCQ

তালিকা I-ৰ সৈতে তালিকা II মিলোৱা:

তালিকা I	তালিকা II
A. ব্যক্তৰূপ বা ফেন টাইপে প্ৰতিটো এলিল বা যুগ্মবিকল্পীৰ অৰিহণাক প্ৰতিফলিত কৰে।	I. প্লেইঅ'ট্ৰ'পি
B. এটা একক জিনৰদ্বাৰা বহুগুণীয় ব্যক্তৰূপৰ প্ৰকাশ	লিঙ্কেজ বা সহলগ্নতা
C. অনা-জননমূলীয় জিন সংযুতিৰ সৃষ্টি	III. বহুজিনীয় বংশগতি
D. F_2 সংযুতিৰ ক্ষেত্ৰত অনা-জননমূলীয় সংযুতিতকৈ জননমূলীয় জিন সংযুতিৰ সংখ্যা বেছি হয়	IV. বিক'মিনেছন বা পুনঃসংযোজন

এতিয়া তলত দিয়া বিকল্পবোৰৰপৰা শুদ্ধ উত্তৰটো বিচাৰি উলিওৱা:

1. A-III, B-I, C-IV, D-II
2. A-I, B-IV, C-II, D-III
3. A-III, B-IV, C-I, D-II
4. A-I, B-III, C-II, D-IV

Options :

485584145581. 1
485584145582. 2
485584145583. 3
485584145584. 4

Question Number : 12 Question Id : 48558436397 Question Type : MCQ Option Shuffling : No Is Question Mandatory :
No Calculator : None Response Time : N.A Think Time : N.A Minimum Instruction Time : 0

Correct Marks : 5 Wrong Marks : 1

Question Key Details :

Key	Value
Comprehension	MCQ

Point mutations means:

1. Change in one base pair
2. Change in one allele
3. Change of base pair at a location without any significance
4. Addition or deletion of codons in multiple of three at a point

Options :

485584145585. 1
485584145586. 2
485584145587. 3
485584145588. 4

Question Number : 12 Question Id : 48558436397 Question Type : MCQ Option Shuffling : No Is Question Mandatory : No Calculator : None Response Time : N.A Think Time : N.A Minimum Instruction Time : 0

Correct Marks : 5 Wrong Marks : 1

Question Key Details :

Key	Value
Comprehension	MCQ

বিন্দু উৎপৰিৱৰ্তন বা পইণ্ট মিউটেছ্যন মানে হ'ল:

1. গ্ৰেযোৰ ক্ষাৰক বা বেছৰ পৰিৱৰ্তন
2. এটা এলিল বা যুগ্মবিকল্পীৰ পৰিৱৰ্তন
3. নিৰ্দিষ্ট গুৰুত্বহীন কোনো এক স্থানত থকা ক্ষাৰক বা বেছ যুগলৰ পৰিৱৰ্তন
4. কোনো এক বিন্দুস্থানত তিনিৰ গুণিতকৰ ৰূপত সংকেতিকা বা ক'ডনৰ সংযোজন অথবা বিলুপ্তিকৰণ

Options :

485584145585. 1
485584145586. 2
485584145587. 3
485584145588. 4

Question Number : 13 Question Id : 48558436398 Question Type : MCQ Option Shuffling : No Is Question Mandatory : No Calculator : None Response Time : N.A Think Time : N.A Minimum Instruction Time : 0

Correct Marks : 5 Wrong Marks : 1

Question Key Details :

Key	Value
Comprehension	MCQ

Which of the following is a stop codon?

1. UAC
2. UAG
3. UAU
4. AUG

Options :

485584145589. 1
485584145590. 2
485584145591. 3
485584145592. 4

Question Number : 13 Question Id : 48558436398 Question Type : MCQ Option Shuffling : No Is Question Mandatory : No Calculator : None Response Time : N.A Think Time : N.A Minimum Instruction Time : 0

Correct Marks : 5 Wrong Marks : 1

Question Key Details :

Key	Value
Comprehension	MCQ

তলৰ কোনটো এটা ষ্টপ ক'ডন বা বিৰাম সংকেতিকা?

1. UAC
2. UAG
3. UAU
4. AUG

Options :

485584145589. 1
485584145590. 2
485584145591. 3
485584145592. 4

Question Number : 14 Question Id : 48558436399 Question Type : MCQ Option Shuffling : No Is Question Mandatory : No Calculator : None Response Time : N.A Think Time : N.A Minimum Instruction Time : 0

Correct Marks : 5 Wrong Marks : 1

Question Key Details :

Key	Value
Comprehension	MCQ

Match List I with List II

LIST I (Codes)		LIST II (Codes for)	
A.	UUU	I.	Phenylalanine
B.	AUG	II.	Initiator codon
C.	UAA	III.	Terminator codon
D.	GUU	IV.	Valine

Choose the correct answer from the options given below:

1. A-I, B-II, C-III, D-IV
2. A-II, B-I, C-III, D-IV
3. A-I, B-II, C-IV, D-III
4. A-III, B-IV, C-I, D-II

Options :

485584145593. 1
485584145594. 2
485584145595. 3
485584145596. 4

Question Number : 14 Question Id : 48558436399 Question Type : MCQ Option Shuffling : No Is Question Mandatory : No Calculator : None Response Time : N.A Think Time : N.A Minimum Instruction Time : 0

Correct Marks : 5 Wrong Marks : 1

Question Key Details :

Key	Value
Comprehension	MCQ

তালিকা I-ৰ সৈতে তালিকা II মিলোৱা:

তালিকা I (সংকেত বা ক'ড)		তালিকা II (সংকেতৰ লক্ষ্য)	
A.	UUU	I.	ফিনাইল,এলানিন
B.	AUG	II.	প্ৰাৰম্ভক সংকেতিকা বা ক'ডন
C.	UAA	III.	সমাপ্তিকৰণ সংকেতিকা
D.	GUU	IV.	ভেলাইন

এতিয়া তলত দিয়া বিকল্পবোৰৰপৰা শুদ্ধ উত্তৰটো বিচাৰি উলিওৱা:

1. A-I, B-II, C-III, D-IV
2. A-II, B-I, C-III, D-IV
3. A-I, B-II, C-IV, D-III
4. A-III, B-IV, C-I, D-II

Options :

- 485584145593. 1
- 485584145594. 2
- 485584145595. 3
- 485584145596. 4

Question Number : 15 Question Id : 48558436400 Question Type : MCQ Option Shuffling : No Is Question Mandatory : No Calculator : None Response Time : N.A Think Time : N.A Minimum Instruction Time : 0

Correct Marks : 5 Wrong Marks : 1

Question Key Details :

Key	Value
Comprehension	MCQ

Multiple additions of new genes or alleles to the new population and their loss from the old population of a particular place due to migration is known as:

1. Gene flow
2. Genetic drift
3. Mutation
4. Natural selection

Options :

- 485584145597. 1
- 485584145598. 2
- 485584145599. 3
- 485584145600. 4

Question Number : 15 Question Id : 48558436400 Question Type : MCQ Option Shuffling : No Is Question Mandatory : No Calculator : None Response Time : N.A Think Time : N.A Minimum Instruction Time : 0

Correct Marks : 5 Wrong Marks : 1

Question Key Details :

Key	Value
Comprehension	MCQ

প্রব্রজনৰ ফলত কোনো ঠাইৰ নতুন আবাদীত নতুন নতুন জিন বা এলিলৰ বহুগুণী সংযোজন তথা পুৰণি আবাদীৰপৰা নতুন আবাদীৰ ক্ৰমান্বয়ে ঘটা বিলোপাত্মক পৰিৱৰ্তনক বোলা হয়:

1. জিন প্ৰবাহ
2. জিনীয় বা আনুৱংশিক সম্প্ৰবাহ (ড্ৰিফ্ট)
3. উৎপৰিৱৰ্তন
4. প্ৰাকৃতিক চয়ন

Options :

- 485584145597. 1
- 485584145598. 2
- 485584145599. 3

485584145600.4

Question Number : 16 Question Id : 48558436401 Question Type : MCQ Option Shuffling : No Is Question Mandatory : No Calculator : None Response Time : N.A Think Time : N.A Minimum Instruction Time : 0

Correct Marks : 5 Wrong Marks : 1

Question Key Details :

Key	Value
Comprehension	MCQ

Australian marsupials show the phenomena of:

1. Convergent evolution
2. Adaptive radiation
3. Isolation
4. Saltation

Options :

485584145601. 1
485584145602. 2
485584145603. 3
485584145604. 4

Question Number : 16 Question Id : 48558436401 Question Type : MCQ Option Shuffling : No Is Question Mandatory : No Calculator : None Response Time : N.A Think Time : N.A Minimum Instruction Time : 0

Correct Marks : 5 Wrong Marks : 1

Question Key Details :

Key	Value
Comprehension	MCQ

অস্ট্রেলিয়াত পোৱা জোনোঙাধাৰী প্ৰাণীবোৰে (মাৰ্ছুপিয়াল) দেখুওৱা পৰিঘটনাটো হ'ল:

1. অভিসাৰী বিৱৰ্তন
2. অভিযোজিত বিকীৰ্ণন
3. বিলগন বা পৃথকীকৰণ
4. ছল্টেছন বা উৎজাম্পন

Options :

485584145601. 1
485584145602. 2
485584145603. 3
485584145604. 4

Question Number : 17 Question Id : 48558436402 Question Type : MCQ Option Shuffling : No Is Question Mandatory : No Calculator : None Response Time : N.A Think Time : N.A Minimum Instruction Time : 0

Correct Marks : 5 Wrong Marks : 1

Question Key Details :

Key	Value
-----	-------

Identify the examples of evolution caused due to anthropogenic actions:

- A. *Bacillus thuringiensis* and Lepidopterans
- B. Industrial melanism in moths
- C. Resistant microbes against antibiotics
- D. Pesticides and insects

Choose the correct answer from the options given below:

- 1. A, B and C only
- 2. A, B and D only
- 3. B, C and D only
- 4. A, C and D Only

Options :

- 485584145605. 1
- 485584145606. 2
- 485584145607. 3
- 485584145608. 4

Question Number : 17 Question Id : 48558436402 Question Type : MCQ Option Shuffling : No Is Question Mandatory : No Calculator : None Response Time : N.A Think Time : N.A Minimum Instruction Time : 0

Correct Marks : 5 Wrong Marks : 1

Question Key Details :

Key	Value
Comprehension	MCQ

মানৱকৃত কাৰ্য্যৰ ফলত সংঘটিত বিৱৰ্তনৰ উদাহৰণবোৰ তলৰপৰা চিনাক্ত কৰা:

- A. বেছিলাছ থুৰিঙ্গিয়েনছিছ আৰু লেপিড'প্টেৰান (পখিলাবৰ্গ)
- B. মথ বা চকৰীৰ দেহত ঘটা উদ্যোগজনিত অতিকৃষ্ণতা (মেলানিজম)
- C. প্ৰতিজৈৱিক প্ৰতিৰোধী অণুজীৱ
- D. কীটনাশক আৰু পতঙ্গ

এতিয়া তলত দিয়া বিকল্পবোৰৰপৰা শুদ্ধ উত্তৰটো বিচাৰি উলিওৱা:

- 1. কেৱল A, B আৰু C
- 2. কেৱল A, B আৰু D
- 3. কেৱল B, C আৰু D
- 4. কেৱল A, C আৰু D

Options :

- 485584145605. 1
- 485584145606. 2
- 485584145607. 3

485584145608. 4

Question Number : 18 Question Id : 48558436403 Question Type : MCQ Option Shuffling : No Is Question Mandatory : No Calculator : None Response Time : N.A Think Time : N.A Minimum Instruction Time : 0

Correct Marks : 5 Wrong Marks : 1

Question Key Details :

Key	Value
Comprehension	MCQ

The presence of which disease is confirmed by Widal Test?

1. Malaria
2. Pncunonia
3. Typhoid
4. AIDS

Options :

485584145609. 1
485584145610. 2
485584145611. 3
485584145612. 4

Question Number : 18 Question Id : 48558436403 Question Type : MCQ Option Shuffling : No Is Question Mandatory : No Calculator : None Response Time : N.A Think Time : N.A Minimum Instruction Time : 0

Correct Marks : 5 Wrong Marks : 1

Question Key Details :

Key	Value
Comprehension	MCQ

তলত দিয়া কোনটো ৰোগৰ উপস্থিতি ৱাইডেল পৰীক্ষাৰ দ্বাৰা নিশ্চিত কৰিব পৰা যায়?

1. মেলেৰিয়া
2. নিউমোনিয়া
3. টাইফয়ড
4. এইডছ (AIDS)

Options :

485584145609. 1
485584145610. 2
485584145611. 3
485584145612. 4

Question Number : 19 Question Id : 48558436404 Question Type : MCQ Option Shuffling : No Is Question Mandatory : No Calculator : None Response Time : N.A Think Time : N.A Minimum Instruction Time : 0

Correct Marks : 5 Wrong Marks : 1

Question Key Details :

Key	Value
Comprehension	MCQ

Arrange the stages of HIV infection in humans sequentially.

- A. Introduction of viral DNA in the cell
- B. Production of multiple viruses
- C. Infection of human cell by virus
- D. Incorporation of viral DNA into host genome

Choose the correct answer from the options given below:

- 1. A, B, D, C
- 2. C, A, D, B
- 3. D, A, B, C
- 4. B, A, D, C

Options :

- 485584145613. 1
- 485584145614. 2
- 485584145615. 3
- 485584145616. 4

Question Number : 19 Question Id : 48558436404 Question Type : MCQ Option Shuffling : No Is Question Mandatory : No Calculator : None Response Time : N.A Think Time : N.A Minimum Instruction Time : 0

Correct Marks : 5 Wrong Marks : 1

Question Key Details :

Key	Value
Comprehension	MCQ

মানৱদেহত ঘটা HIV সংক্ৰমণৰ তলত দিয়া পৰ্য্যায়সমূহ আৰম্ভণিৰপৰা শেষলৈ পৰ্য্যায়ক্ৰমে সজোৱা।

- A. কোষত বিষণু বা ভাইৰাছৰ DNA প্ৰৱেশ
- B. ভাইৰাছৰ বহুগুণীয় উৎপাদন
- C. মানৱদেহৰ কোষত ভাইৰাছৰ সংক্ৰমণ
- D. পোষক জিন'মত ভাইৰাছৰ DNA-ৰ সমাবেশন

এতিয়া তলত দিয়া বিকল্পবোৰৰপৰা শুদ্ধ উত্তৰটো বিচাৰি উলিওৱা:

- 1. A, B, D, C
- 2. C, A, D, B
- 3. D, A, B, C
- 4. B, A, D, C

Options :

- 485584145613. 1
- 485584145614. 2
- 485584145615. 3

Question Number : 20 Question Id : 48558436405 Question Type : MCQ Option Shuffling : No Is Question Mandatory : No Calculator : None Response Time : N.A Think Time : N.A Minimum Instruction Time : 0

Correct Marks : 5 Wrong Marks : 1

Question Key Details :

Key	Value
Comprehension	MCQ

Match List I with List II

LIST I Causal organism		LIST II Disease	
A.	<i>Wuchereria bancrofti</i>	I.	Ringworm
B.	<i>Microsporium</i>	II.	Elephantiasis
C.	<i>Entamoeba histolytica</i>	III.	Malaria
D.	<i>Plasmodium vivax</i>	IV.	Amoebiasis

Choose the correct answer from the options given below:

1. A-II, B-I, C-IV, D-III
2. A-I, B-II, C-III, D-IV
3. A-IV, B-III, C-II, D-I
4. A-I, B-II, C-IV, D-III

Options :

485584145617. 1

485584145618. 2

485584145619. 3

485584145620. 4

Question Number : 20 Question Id : 48558436405 Question Type : MCQ Option Shuffling : No Is Question Mandatory : No Calculator : None Response Time : N.A Think Time : N.A Minimum Instruction Time : 0

Correct Marks : 5 Wrong Marks : 1

Question Key Details :

Key	Value
Comprehension	MCQ

তালিকা I-ৰ সৈতে তালিকা II মিলোৱা:

তালিকা I (কাৰক জীৱ)		তালিকা II (ৰোগ)	
A.	বুহুবেৰিয়া বেংক্ৰাফ্টি	I.	খৰ
B.	মাইক্ৰস্প'ৰাম	II.	গোধৰোগ বা কলগছীয়া
C.	এণ্টামিবা হিষ্ট'লাইটিকা	III.	মেলৰিয়া
D.	প্লাজমা ডিয়াম ভাইভেল্ল	IV.	এমিবিয় গ্ৰহণী

এতিয়া তলত দিয়া বিকল্পবোৰৰপৰা শুদ্ধ উত্তৰটো বিচাৰি উলিওৱা:

1. A-II, B-I, C-IV, D-III
2. A-I, B-II, C-III, D-IV
3. A-IV, B-III, C-II, D-I
4. A-I, B-II, C-IV, D-III

Options :

485584145617. 1
485584145618. 2
485584145619. 3
485584145620. 4

Question Number : 21 Question Id : 48558436406 Question Type : MCQ Option Shuffling : No Is Question Mandatory : No Calculator : None Response Time : N.A Think Time : N.A Minimum Instruction Time : 0

Correct Marks : 5 Wrong Marks : 1

Question Key Details :

Key	Value
Comprehension	MCQ

Homozygosity is achieved through :

1. Recombinant DNA technology
2. Vaccination
3. Inbreeding
4. Hybridoma technology

Options :

485584145621. 1
485584145622. 2
485584145623. 3
485584145624. 4

Question Number : 21 Question Id : 48558436406 Question Type : MCQ Option Shuffling : No Is Question Mandatory : No Calculator : None Response Time : N.A Think Time : N.A Minimum Instruction Time : 0

Correct Marks : 5 Wrong Marks : 1

Question Key Details :

Key	Value
Comprehension	MCQ

সমযুগ্মজতা বা হ'মোযাইগ'ছিটি পাব পৰা যায়:

1. পুনঃসংযোজিত বা বিক'ম্বিনেণ্ট DNA প্ৰযুক্তিৰদ্বাৰা
2. টিকাকৰণৰদ্বাৰা
3. অন্তঃপ্ৰজনন বা ইনব্ৰীডিঙৰদ্বাৰা
4. সংকৰকোষীয় বা হাইব্ৰিডোমা প্ৰযুক্তিৰদ্বাৰা

Options :

485584145621. 1
485584145622. 2
485584145623. 3
485584145624. 4

Question Number : 22 Question Id : 48558436407 Question Type : MCQ Option Shuffling : No Is Question Mandatory : No Calculator : None Response Time : N.A Think Time : N.A Minimum Instruction Time : 0

Correct Marks : 5 Wrong Marks : 1

Question Key Details :

Key	Value
Comprehension	MCQ

Arrange the steps involved in breeding a crop for a new genetic variety in sequence.

- A. Selection and testing of superior recombinants
- B. Evaluation and selection of parents
- C. Collection of variability
- D. Testing release and commercialisation of new cultivars
- E. Cross hybridisation among selected parents

Choose the correct answer from the options given below:

1. A → C → B → E → D
2. B → D → A → C → E
3. C → B → E → A → D
4. D → B → A → E → C

Options :

485584145625. 1
485584145626. 2
485584145627. 3
485584145628. 4

Question Number : 22 Question Id : 48558436407 Question Type : MCQ Option Shuffling : No Is Question Mandatory : No Calculator : None Response Time : N.A Think Time : N.A Minimum Instruction Time : 0

Correct Marks : 5 Wrong Marks : 1

Question Key Details :

Key	Value
Comprehension	MCQ

শস্য এবিধৰ নতুন জিনীয় প্ৰকাৰ এটা উৎপন্ন কৰাৰ ক্ষেত্ৰত জড়িত তলত দিয়া পৰ্যায়বোৰ আৰম্ভণিবৰপৰা অন্তলৈ ক্ৰমাগতভাৱে সজোৱা।

- উন্নত পুনঃসংযোজিত বা বিক-স্বিনেণ্টৰ বাছনি আৰু পৰীক্ষণ
- জনক প্ৰজাতিবোৰৰ (পেৰেণ্ট) মূল্যায়ন আৰু নিৰ্বাচন
- বিভেদ্যতা বা ভেৰিয়েবিলিটীৰ সংগ্ৰহ
- নৱ উৎপাদিত শস্যবিধৰ বজাৰত পৰীক্ষামূলক মুকলি আৰু ব্যৱসায়িককৰণ
- নিৰ্বাচিত জনক প্ৰজাতিসমূহৰ মাজত বৰ্ণসংকৰণ

এতিয়া তলত দিয়া বিকল্পবোৰৰপৰা শুদ্ধ উত্তৰটো বিচাৰি উলিওৱা:

- A → C → B → E → D
- B → D → A → C → E
- C → B → E → A → D
- D → B → A → E → C

Options :

485584145625. 1
485584145626. 2
485584145627. 3
485584145628. 4

Question Number : 23 Question Id : 48558436408 Question Type : MCQ Option Shuffling : No Is Question Mandatory : No Calculator : None Response Time : N.A Think Time : N.A Minimum Instruction Time : 0

Correct Marks : 5 Wrong Marks : 1

Question Key Details :

Key	Value
Comprehension	MCQ

Match List I with List II

LIST I		LIST II	
A.	<i>Apis indica</i>	I.	Dairying
B.	<i>Carla</i>	II.	Poultry
C.	Leghorn	III.	Fisheries
D.	Jersey	IV.	Bee-keeping

Choose the correct answer from the options given below:

1. A-I, B-II, C-III, D-IV
2. A-II, B-I, C-III, D-IV
3. A-IV, B-III, C-II, D-I
4. A-III, B-IV, C-I, D-II

Options :

485584145629. 1
485584145630. 2
485584145631. 3
485584145632. 4

Question Number : 23 Question Id : 48558436408 Question Type : MCQ Option Shuffling : No Is Question Mandatory : No Calculator : None Response Time : N.A Think Time : N.A Minimum Instruction Time : 0

Correct Marks : 5 Wrong Marks : 1

Question Key Details :

Key	Value
Comprehension	MCQ

তালিকা I-ৰ সৈতে তালিকা II মিলোৱা:

তালিকা I		তালিকা II	
A.	এপিছ ইণ্ডিকা	I.	দুগ্ধ উদ্যোগ
B.	কাটলা	II.	পক্ষীপালন
C.	লেগহৰ্ন	III.	মীনপালন
D.	জাৰ্ছী	IV.	মোমাখি পালন

এতিয়া তলত দিয়া বিকল্পবোৰৰপৰা শুদ্ধ উত্তৰটো বিচাৰি উলিওৱা:

1. A-I, B-II, C-III, D-IV
2. A-II, B-I, C-III, D-IV
3. A-IV, B-III, C-II, D-I
4. A-III, B-IV, C-I, D-II

Options :

485584145629. 1

485584145630. 2
485584145631. 3
485584145632. 4

Question Number : 24 Question Id : 48558436409 Question Type : MCQ Option Shuffling : No Is Question Mandatory :
No Calculator : None Response Time : N.A Think Time : N.A Minimum Instruction Time : 0

Correct Marks : 5 Wrong Marks : 1

Question Key Details :

Key	Value
Comprehension	MCQ

Which of the following microbe serves as an important biofertiliser in paddy field?

1. Cyanobacteria
2. *Rhizobium*
3. Mycorrhiza
4. *Bacillus thuringiensis*

Options :

485584145633. 1
485584145634. 2
485584145635. 3
485584145636. 4

Question Number : 24 Question Id : 48558436409 Question Type : MCQ Option Shuffling : No Is Question Mandatory :
No Calculator : None Response Time : N.A Think Time : N.A Minimum Instruction Time : 0

Correct Marks : 5 Wrong Marks : 1

Question Key Details :

Key	Value
Comprehension	MCQ

তলত দিয়া কোনবিধ অণুজীৱই ধাননি পথাৰত এক গুৰুত্বপূৰ্ণ জৈৱসাৰ বা জীৱাণুসাৰৰ ভূমিকা পালন কৰে?

1. ছায়েন'বেক্টেৰিয়া
2. ৰাইজ'বিয়াম
3. মাইক'ৰহাইযা
4. বেছিলাছ থুৰিংজিয়েনছিছ

Options :

485584145633. 1
485584145634. 2
485584145635. 3
485584145636. 4

Question Number : 25 Question Id : 48558436410 Question Type : MCQ Option Shuffling : No Is Question Mandatory :
No Calculator : None Response Time : N.A Think Time : N.A Minimum Instruction Time : 0

Correct Marks : 5 Wrong Marks : 1

Question Key Details :

Key	Value
Comprehension	MCQ

Identify the correct statements with respect to microbes.

- A. "Toddy" the traditional drink obtained by fermenting sap of Palm tree.
- B. Swiss cheese's large holes are due to activity of *Saccharomyces cerevisiae*.
- C. "Penicillin" was discovered by Alexander Fleming.
- D. The Cyclosporin A, is produced by *Trichoderma polysporum*.

Choose the the correct answer from the options given below:

- 1. A, B and D only
- 2. A and B only
- 3. A, C, and D only
- 4. C and D only

Options :

- 485584145637. 1
- 485584145638. 2
- 485584145639. 3
- 485584145640. 4

Question Number : 25 Question Id : 48558436410 Question Type : MCQ Option Shuffling : No Is Question Mandatory : No Calculator : None Response Time : N.A Think Time : N.A Minimum Instruction Time : 0

Correct Marks : 5 Wrong Marks : 1

Question Key Details :

Key	Value
Comprehension	MCQ

অণুজীৱবোৰৰ সম্বন্ধীয় শুদ্ধ উক্তিবোৰ তলৰপৰা চিনাক্ত কৰা।

- A. "ট/ডি" বোলা পৰম্পৰাগত পানীয়বিধ তালজাতীয় ফলৰ ৰসৰ কিণ্বন ঘটাই আহৰণ কৰা হয়।
- B. ছুইচ্ছ ছীজত থকা ডাঙৰ ডাঙৰ ছিন্দ্ৰবোৰৰ কাৰণ হ'ল ছেকেৰ' মাইছিছ ছেৰেভিছিৰ ক্ৰিয়াকলাপ।
- C. আলেকজেণ্ডাৰ ফ্লেমিঙে "পেনিছিলিন" আৱিষ্কাৰ কৰিছিল।
- D. ট্ৰাইক ডেৰ্মা প'লিম্প ৰামে ছাইক'স্প'ৰিন-A উৎপন্ন কৰে।

এতিয়া তলত দিয়া বিকল্পবোৰৰপৰা শুদ্ধ উত্তৰটো বিচাৰি উলিওৱা:

- 1. কেৱল A, B আৰু D
- 2. কেৱল A আৰু B
- 3. কেৱল A, C আৰু D
- 4. কেৱল C আৰু D

Options :

- 485584145637. 1
- 485584145638. 2
- 485584145639. 3
- 485584145640. 4

Question Number : 26 Question Id : 48558436411 Question Type : MCQ Option Shuffling : No Is Question Mandatory : No Calculator : None Response Time : N.A Think Time : N.A Minimum Instruction Time : 0

Correct Marks : 5 Wrong Marks : 1

Question Key Details :

Key	Value
Comprehension	MCQ

Match List I with List II

LIST I Organism		LIST II Product	
A.	<i>Streptococcus</i>	I.	Citric acid
B.	<i>Aspergillus niger</i>	II.	Streptokinase
C.	<i>Monascus purpureus</i>	III.	Ethanol
D.	<i>Saccharomyces cerevisiae</i>	IV.	Statin

Choose the correct answer from the options given below:

1. A-II, B-I, C-IV, D-III
2. A-I, B-II, C-III, D-IV
3. A-II, B-I, C-III, D-IV
4. A-III, B-IV, C-I, D-II

Options :

- 485584145641. 1
- 485584145642. 2
- 485584145643. 3
- 485584145644. 4

Question Number : 26 Question Id : 48558436411 Question Type : MCQ Option Shuffling : No Is Question Mandatory : No Calculator : None Response Time : N.A Think Time : N.A Minimum Instruction Time : 0

Correct Marks : 5 Wrong Marks : 1

Question Key Details :

Key	Value
Comprehension	MCQ

তালিকা I-ৰ সৈতে তালিকা II মিলোৱা:

তালিকা I (জীৱ)		তালিকা II (উৎপাদিত প্ৰকাৰ)	
A.	ষ্ট্ৰেপ্টোকক্কাস	I.	ছাইট্ৰিক এছিড
B.	এছপাৰ্জিলাছ নাইজোৰ	II.	ষ্ট্ৰেপ্টোকাইনেজ
C.	ম'নাস্কাছ পাৰপিউৰিয়াছ	III.	ইথানল
D.	ছেফেৰ মাইছিছ ছেৰেভিছি	IV.	ষ্ট্ৰেটিন

এতিয়া তলত দিয়া বিকল্পবোৰৰপৰা শুদ্ধ উত্তৰটো বিচাৰি উলিওৱা:

1. A-II, B-I, C-IV, D-III
2. A-I, B-II, C-III, D-IV
3. A-II, B-I, C-III, D-IV
4. A-III, B-IV, C-I, D-II

Options :

485584145641. 1
485584145642. 2
485584145643. 3
485584145644. 4

Question Number : 27 Question Id : 48558436412 Question Type : MCQ Option Shuffling : No Is Question Mandatory : No Calculator : None Response Time : N.A Think Time : N.A Minimum Instruction Time : 0

Correct Marks : 5 Wrong Marks : 1

Question Key Details :

Key	Value
Comprehension	MCQ

Which of the following is not a part of downstream processing?

1. Separation
2. Purification
3. Quality control
4. Biosynthesis

Options :

485584145645. 1
485584145646. 2
485584145647. 3
485584145648. 4

Question Number : 27 Question Id : 48558436412 Question Type : MCQ Option Shuffling : No Is Question Mandatory : No Calculator : None Response Time : N.A Think Time : N.A Minimum Instruction Time : 0

Correct Marks : 5 Wrong Marks : 1

Question Key Details :

Key	Value
Comprehension	MCQ

তলত দিয়া কোনটো অধোমুখী সংসাধন (ডাউনষ্ট্ৰীম প্ৰ'ছেছিং) প্ৰক্ৰিয়াৰ অংশ নহয়?

1. পৃথকীকৰণ
2. পৰিশোধন বা বিশুদ্ধীকৰণ
3. জুপাগত মান নিয়ন্ত্ৰণ
4. জৈৱসংশ্ৰেষণ

Options :

485584145645. 1
485584145646. 2
485584145647. 3
485584145648. 4

Question Number : 28 Question Id : 48558436413 Question Type : MCQ Option Shuffling : No Is Question Mandatory : No Calculator : None Response Time : N.A Think Time : N.A Minimum Instruction Time : 0

Correct Marks : 5 Wrong Marks : 1

Question Key Details :

Key	Value
Comprehension	MCQ

Which was the first restriction endonuclease discovered?

1. *EcoRI*
2. *BamHI*
3. *HindII*
4. *PstI*

Options :

485584145649. 1
485584145650. 2
485584145651. 3
485584145652. 4

Question Number : 28 Question Id : 48558436413 Question Type : MCQ Option Shuffling : No Is Question Mandatory : No Calculator : None Response Time : N.A Think Time : N.A Minimum Instruction Time : 0

Correct Marks : 5 Wrong Marks : 1

Question Key Details :

Key	Value
Comprehension	MCQ

পোনপ্রথমে আৱিষ্কাৰ হোৱা ৰেষ্ট্ৰিক্‌ছন বা বিদাৰণ এণ্ড'নিউক্লিয়েজটো কি?

1. *EcoRI*
2. *BamHI*
3. *HindII*
4. *PstI*

Options :

485584145649. 1
485584145650. 2
485584145651. 3
485584145652. 4

Question Number : 29 Question Id : 48558436414 Question Type : MCQ Option Shuffling : No Is Question Mandatory : No Calculator : None Response Time : N.A Think Time : N.A Minimum Instruction Time : 0

Correct Marks : 5 Wrong Marks : 1

Question Key Details :

Key	Value
Comprehension	MCQ

The correct sequence of steps to obtain gene of interest from pool of DNA is:

- A. Cutting of DNA using restriction endonuclease.
- B. Viewing the ethidium bromide stained gel under UV light.
- C. Loading of DNA in wells.
- D. Cutting and extraction of DNA piece from gel.
- E. Separation of DNA fragments according to their molecular size.

Choose the correct answer from the options given below:

1. A, C, E, B, D
2. A, D, C, B, E
3. E, D, B, C, A
4. D, E, C, A, B

Options :

485584145653. 1
485584145654. 2
485584145655. 3
485584145656. 4

Question Number : 29 Question Id : 48558436414 Question Type : MCQ Option Shuffling : No Is Question Mandatory : No Calculator : None Response Time : N.A Think Time : N.A Minimum Instruction Time : 0

Correct Marks : 5 Wrong Marks : 1

Question Key Details :

Key	Value
Comprehension	MCQ

DNA গুচ্ছ এটাৰপৰা ঈঙ্গিত জিন (জিন অফ ইণ্টাৰেষ্ট) এটা আহৰণ কৰা পদ্ধতিৰ সঠিক পৰ্যায়ক্রমটো হ'ল:

- বোষ্টিকছান বা বিদাৰণ এণ্ড নিউক্লিয়েজৰদ্বাৰা DNA-ৰ ছেদন।
- ইথিডিয়াম ব্ৰ'মাইডেৰে ৰঞ্জিত জেলৰ অতি-বেঙুনীয়া ৰশ্মিৰে দৰ্শন।
- DNAবোৰ কুপ বা নাদত স্থাপন।
- জেলৰপৰা DNA-ৰ টুকুৰাৰ ছেদন আৰু নিষ্কাশণ।
- আণৱিক আকাৰ অনুসৰি DNA খণ্ডবোৰৰ পৃথকীকৰণ।

এতিয়া তলত দিয়া বিকল্পবোৰৰপৰা শুদ্ধ উত্তৰটো বিচাৰি উলিওৱা:

- A, C, E, B, D
- A, D, C, B, E
- E, D, B, C, A
- D, E, C, A, B

Options :

485584145653. 1
485584145654. 2
485584145655. 3
485584145656. 4

Question Number : 30 Question Id : 48558436415 Question Type : MCQ Option Shuffling : No Is Question Mandatory : No Calculator : None Response Time : N.A Think Time : N.A Minimum Instruction Time : 0

Correct Marks : 5 Wrong Marks : 1

Question Key Details :

Key	Value
Comprehension	MCQ

Over 95% of all existing transgenic animals are:

- Mice
- Goat
- Rabbit
- Pig

Options :

485584145657. 1
485584145658. 2
485584145659. 3
485584145660. 4

Question Number : 30 Question Id : 48558436415 Question Type : MCQ Option Shuffling : No Is Question Mandatory : No Calculator : None Response Time : N.A Think Time : N.A Minimum Instruction Time : 0

Correct Marks : 5 Wrong Marks : 1

Question Key Details :

Key	Value
-----	-------

বৰ্তমানে অস্তিত্বযুক্ত সকলো ট্ৰেন্সজিনীয় বা জিনীয়ভাৱে ৰূপান্তৰিত প্ৰাণীৰ প্ৰায় 95%-ই হৈছে:

1. নিগনিজাতীয় প্ৰাণী
2. ছাগলী
3. শহাপহু
4. গাহৰি

Options :

485584145657. 1
 485584145658. 2
 485584145659. 3
 485584145660. 4

Question Number : 31 Question Id : 48558436416 Question Type : MCQ Option Shuffling : No Is Question Mandatory : No Calculator : None Response Time : N.A Think Time : N.A Minimum Instruction Time : 0

Correct Marks : 5 Wrong Marks : 1

Question Key Details :

Key	Value
Comprehension	MCQ

A novel strategy to prevent infestation of roots of tobacco plant with the nematode *Meloidogyne incognita* is :

1. DNA interference
2. DNA-RNA interference
3. RNA interference
4. RNA-Protein interference

Options :

485584145661. 1
 485584145662. 2
 485584145663. 3
 485584145664. 4

Question Number : 31 Question Id : 48558436416 Question Type : MCQ Option Shuffling : No Is Question Mandatory : No Calculator : None Response Time : N.A Think Time : N.A Minimum Instruction Time : 0

Correct Marks : 5 Wrong Marks : 1

Question Key Details :

Key	Value
Comprehension	MCQ

মেন' ঝাডিজাইন ইনক' গনিছিয়া নামৰ গোলকৃমিবিধৰদ্বাৰা ধীপাত গছৰ শিপা আক্ৰান্ত নোহোৱাকৈ ৰাখিবৰ বাবে লোৱা এক অভিনৱ পদ্ধি হ'ল:

1. DNA সমাৰোপণ
2. DNA-RNA সমাৰোপণ
3. RNA সমাৰোপণ
4. RNA-প্ৰ'টিন সমাৰোপণ

Options :

485584145661. 1
485584145662. 2
485584145663. 3
485584145664. 4

Question Number : 32 Question Id : 48558436417 Question Type : MCQ Option Shuffling : No Is Question Mandatory : No Calculator : None Response Time : N.A Think Time : N.A Minimum Instruction Time : 0

Correct Marks : 5 Wrong Marks : 1

Question Key Details :

Key	Value
Comprehension	MCQ

Match List I with List II

LIST I		LIST II	
A.	<i>Bacillus thuringiensis</i>	I.	Synthetic Human Insulin
B.	<i>Agrobacterium</i>	II.	ADA gene therapy
C.	<i>E. Coli</i>	III.	Cry gene
D.	Retroviral Vector	IV.	Vector carrying nematode-specific genes

Choose the correct answer from the options given below:

1. A-III, B-IV, C-I, D-II
2. A-II, B-I, C-III, D-IV
3. A-I, B-III, C-IV, D-II
4. A-IV, B-II, C-I, D-III

Options :

485584145665. 1
485584145666. 2
485584145667. 3
485584145668. 4

Question Number : 32 Question Id : 48558436417 Question Type : MCQ Option Shuffling : No Is Question Mandatory : No Calculator : None Response Time : N.A Think Time : N.A Minimum Instruction Time : 0

Correct Marks : 5 Wrong Marks : 1

Question Key Details :

Key	Value
Comprehension	MCQ

তালিকা I-ৰ সৈতে তালিকা II মিলোৱা:

তালিকা I		তালিকা II	
A.	বেছিলাছ থুবিনাজিয়েনছিছ	I.	সংশ্লেষিত মানৱ ইনচুলিন
B.	এগ্ৰ বেক্টেৰিয়াম	II.	ADA জিন থেৰাপী
C.	ই কলাই	III.	ক্ৰাই জিন
D.	বেট্ৰ ভাইৰাছজাতীয় বাহক	IV.	গোলকুমিবিশিষ্ট জিন বহনকাৰী বাহক

এতিয়া তলত দিয়া বিকল্পবোৰৰপৰা শুদ্ধ উত্তৰটো বিচাৰি উলিওৱা:

1. A-III, B-IV, C-I, D-II
2. A-II, B-I, C-III, D-IV
3. A-I, B-III, C-IV, D-II
4. A-IV, B-II, C-I, D-III

Options :

485584145665. 1
485584145666. 2
485584145667. 3
485584145668. 4

Question Number : 33 Question Id : 48558436418 Question Type : MCQ Option Shuffling : No Is Question Mandatory : No Calculator : None Response Time : N.A Think Time : N.A Minimum Instruction Time : 0

Correct Marks : 5 Wrong Marks : 1

Question Key Details :

Key	Value
Comprehension	MCQ

Identify the commensalism from the following associations:

1. Fungi and roots of higher plants.
2. Cuckoo and crow during breeding season
3. Fig species and wasp
4. Sea anemone and clown fish

Options :

485584145669. 1
485584145670. 2
485584145671. 3
485584145672. 4

Question Number : 33 Question Id : 48558436418 Question Type : MCQ Option Shuffling : No Is Question Mandatory : No Calculator : None Response Time : N.A Think Time : N.A Minimum Instruction Time : 0

Correct Marks : 5 Wrong Marks : 1

Question Key Details :

Key	Value
Comprehension	MCQ

তলত দিয়া সঙ্কলবোৰৰ মাজৰপৰা সহযোজিতা বা সহভোজিতাৰ উদাহৰণটো চিনাক্ত কৰা:

1. ভেঁকুৰ আৰু উচ্চস্তৰৰ উদ্ভিদৰ শিপা
2. উমনি দিয়া কালত কুলি আৰু কাউৰী
3. ডিমৰু প্ৰজাতি আৰু বৰল
4. সাগৰীয় এনিমা'ন আৰু ক্লাউন মাছ

Options :

485584145669. 1
485584145670. 2
485584145671. 3
485584145672. 4

Question Number : 34 Question Id : 48558436419 Question Type : MCQ Option Shuffling : No Is Question Mandatory : No Calculator : None Response Time : N.A Think Time : N.A Minimum Instruction Time : 0

Correct Marks : 5 Wrong Marks : 1

Question Key Details :

Key	Value
Comprehension	MCQ

Select the organisms that can tolerate wide range of temperatures:

1. Eurythermals
2. Stenothermals
3. Conformers
4. Osmoregulators

Options :

485584145673. 1
485584145674. 2
485584145675. 3
485584145676. 4

Question Number : 34 Question Id : 48558436419 Question Type : MCQ Option Shuffling : No Is Question Mandatory : No Calculator : None Response Time : N.A Think Time : N.A Minimum Instruction Time : 0

Correct Marks : 5 Wrong Marks : 1

Question Key Details :

Key	Value
-----	-------

উষ্ণতাৰ তাৰতম্যৰ ব্যাপক পৰিসৰ সহ্য কৰিব পৰা জীৱৰ প্ৰকাৰবিধ চিনাক্ত কৰা:

1. ইউৰ'থাৰ্মেল বা পৃথুতাপী
2. ষ্টেন'থাৰ্মেল বা তনুতাপী
3. কনফ'ৰ্মাৰ বা অনুতাপী
4. অছ'ম'ৰেগুলেটৰ বা আসূতি-নিয়ন্ত্ৰক

Options :

485584145673. 1
485584145674. 2
485584145675. 3
485584145676. 4

Question Number : 35 Question Id : 48558436420 Question Type : MCQ Option Shuffling : No Is Question Mandatory : No Calculator : None Response Time : N.A Think Time : N.A Minimum Instruction Time : 0

Correct Marks : 5 Wrong Marks : 1

Question Key Details :

Key	Value
Comprehension	MCQ

The rate of decomposition is controlled by:

1. Chemical composition of detritus only
2. Climatic factors only
3. Both chemical composition of detritus and climatic factors
4. Atmospheric pressure

Options :

485584145677. 1
485584145678. 2
485584145679. 3
485584145680. 4

Question Number : 35 Question Id : 48558436420 Question Type : MCQ Option Shuffling : No Is Question Mandatory : No Calculator : None Response Time : N.A Think Time : N.A Minimum Instruction Time : 0

Correct Marks : 5 Wrong Marks : 1

Question Key Details :

Key	Value
Comprehension	MCQ

অপঘটন বা বিয়োজন বা পচনৰ হাৰ নিয়ন্ত্ৰণ কৰে:

1. কেৱল অৱশেষ বা অপৰদৰ ৰাসায়নিক সংযুতিয়ে
2. কেৱল জলবায়ু সম্বন্ধীয় কাৰকে
3. অৱশেষ বা অপৰদৰ ৰাসায়নিক সংযুতি আৰু জলবায়ু সম্বন্ধীয় কাৰক উভয়ে
4. বায়ুমণ্ডলীয় চাপে

Options :

485584145677. 1
485584145678. 2
485584145679. 3
485584145680. 4

Question Number : 36 Question Id : 48558436421 Question Type : MCQ Option Shuffling : No Is Question Mandatory : No Calculator : None Response Time : N.A Think Time : N.A Minimum Instruction Time : 0

Correct Marks : 5 Wrong Marks : 1

Question Key Details :

Key	Value
Comprehension	MCQ

The Net Primary Productivity (NPP) is :

1. Gross Primary Productivity – Respiration losses
2. Gross Primary Productivity + Respiration losses
3. Gross Primary Productivity \times Respiration losses
4. Respiration losses – Gross Primary Productivity

Options :

485584145681. 1
485584145682. 2
485584145683. 3
485584145684. 4

Question Number : 36 Question Id : 48558436421 Question Type : MCQ Option Shuffling : No Is Question Mandatory : No Calculator : None Response Time : N.A Think Time : N.A Minimum Instruction Time : 0

Correct Marks : 5 Wrong Marks : 1

Question Key Details :

Key	Value
Comprehension	MCQ

শুদ্ধ বা নেট প্রাথমিক উৎপাদিতা (NPP) হৈছে:

1. মুঠ প্রাথমিক উৎপাদিতা – স্বসন
2. মুঠ প্রাথমিক উৎপাদিতা + স্বসন
3. মুঠ প্রাথমিক উৎপাদিতা \times স্বসন
4. স্বসন – মুঠ প্রাথমিক উৎপাদিতা

Options :

485584145681. 1
485584145682. 2
485584145683. 3
485584145684. 4

Question Number : 37 Question Id : 48558436422 Question Type : MCQ Option Shuffling : No Is Question Mandatory : No Calculator : None Response Time : N.A Think Time : N.A Minimum Instruction Time : 0

Correct Marks : 5 Wrong Marks : 1

Question Key Details :

Key	Value
Comprehension	MCQ

Which of the following country has the highest biodiversity?

1. Brazil
2. Zimbabwe
3. Russia
4. India

Options :

485584145685. 1
485584145686. 2
485584145687. 3
485584145688. 4

Question Number : 37 Question Id : 48558436422 Question Type : MCQ Option Shuffling : No Is Question Mandatory : No Calculator : None Response Time : N.A Think Time : N.A Minimum Instruction Time : 0

Correct Marks : 5 Wrong Marks : 1

Question Key Details :

Key	Value
Comprehension	MCQ

তলত উল্লেখ কৰা কোনখন দেশত সৰ্বাধিক জৈৱবৈচিত্ৰ্য দেখা যায়?

1. ব্ৰাজিল
2. জিম্বাবুৱে
3. ৰাছিয়া
4. ভাৰতবৰ্ষ

Options :

485584145685. 1
485584145686. 2
485584145687. 3
485584145688. 4

Question Number : 38 Question Id : 48558436423 Question Type : MCQ Option Shuffling : No Is Question Mandatory : No Calculator : None Response Time : N.A Think Time : N.A Minimum Instruction Time : 0

Correct Marks : 5 Wrong Marks : 1

Question Key Details :

Key	Value
Comprehension	MCQ

Which of the following species has become extinct due to over exploitation by humans?

1. *Clarias gariepinus*
2. Stellers's sea cow
3. *Lantana*
4. *Parthenium*

Options :

485584145689. 1
485584145690. 2
485584145691. 3
485584145692. 4

Question Number : 38 Question Id : 48558436423 Question Type : MCQ Option Shuffling : No Is Question Mandatory : No Calculator : None Response Time : N.A Think Time : N.A Minimum Instruction Time : 0

Correct Marks : 5 Wrong Marks : 1

Question Key Details :

Key	Value
Comprehension	MCQ

মানুহৰ উৎপীড়নৰ ফলত তলৰ কোনবিধ জীৱ বিনোন্ত হৈ গৈছে?

1. ক্লেৰিয়াছ গেৰিয়েপিনাছ
2. সাগৰীয় গৰু (ষ্টেলাৰ্ছ ছী কাউ)
3. লেণ্টানা
4. পাথেনিয়াম

Options :

485584145689. 1
485584145690. 2
485584145691. 3
485584145692. 4

Question Number : 39 Question Id : 48558436424 Question Type : MCQ Option Shuffling : No Is Question Mandatory : No Calculator : None Response Time : N.A Think Time : N.A Minimum Instruction Time : 0

Correct Marks : 5 Wrong Marks : 1

Question Key Details :

Key	Value
Comprehension	MCQ

Salts are drawn to the surface of the soil by:

1. Over cultivation
2. Deforestation
3. Water logging
4. Unrestricted grazing

Options :

485584145693. 1
485584145694. 2
485584145695. 3
485584145696. 4

Question Number : 39 Question Id : 48558436424 Question Type : MCQ Option Shuffling : No Is Question Mandatory : No Calculator : None Response Time : N.A Think Time : N.A Minimum Instruction Time : 0

Correct Marks : 5 Wrong Marks : 1

Question Key Details :

Key	Value
Comprehension	MCQ

নিমখ ভূপৃষ্ঠৰ ওপৰভাগলৈ উঠি অহাৰ কাৰণ হ'ল:

1. অত্যধিক কৃষি
2. অৰণ্য সংহাৰ
3. জলমগ্নতা
4. অবাধ পশু চাৰণ

Options :

485584145693. 1
485584145694. 2
485584145695. 3
485584145696. 4

Question Number : 40 Question Id : 48558436425 Question Type : MCQ Option Shuffling : No Is Question Mandatory : No Calculator : None Response Time : N.A Think Time : N.A Minimum Instruction Time : 0

Correct Marks : 5 Wrong Marks : 1

Question Key Details :

Key	Value
Comprehension	MCQ

World's most problematic aquatic weed is:

1. Free floating algae
2. *Vallisneria*
3. *Eichhornia crassipes*
4. *Chara*

Options :

485584145697. 1
485584145698. 2
485584145699. 3
485584145700. 4

Question Number : 40 Question Id : 48558436425 Question Type : MCQ Option Shuffling : No Is Question Mandatory : No Calculator : None Response Time : N.A Think Time : N.A Minimum Instruction Time : 0

Correct Marks : 5 Wrong Marks : 1

Question Key Details :

Key	Value
Comprehension	MCQ

পৃথিবীর সর্বাধিক সমস্যা সৃষ্টিকারী জলজ অপতৃণবিধ হ'ল:

1. মুক্তভারে গুপুটি থকা শেলাই
2. ভেলিছনেৰিয়া
3. এইকর্নিয়া ক্লেছিপেছ বা পানীমেটেকা
4. কেৰা

Options :

485584145697. 1
485584145698. 2
485584145699. 3
485584145700. 4

Sub-Section Number :

2

Sub-Section Id :

4855842691

Question Shuffling Allowed :

No

Is Section Default? :

null

Question Number : 41 Question Id : 48558436426 Question Type : MCQ Option Shuffling : No Is Question Mandatory : No Calculator : None Response Time : N.A Think Time : N.A Minimum Instruction Time : 0

Correct Marks : 5 Wrong Marks : 1

Question Key Details :

Key	Value
Comprehension	Compl

Read the given paragraph and answer the question:

Humans have 23 pairs of chromosomes. 22 pairs are exactly same in both males and females; these are the autosomes. A pair of X-chromosome are present in the female, whereas the presence of an X and Y chromosome are determinant of the male characteristic.

A number of disorders in human beings have been found to be associated with the inheritance of changed or altered genes or chromosomes. Broadly, genetic disorder may be grouped into two categories-Mendelian disorders and Chromosomal disorders.

What is the probability of having a daughter to a couple expecting their first child?

1. Nil
2. 25%
3. 50%
4. 100%

Options :

485584145701. 1
485584145702. 2
485584145703. 3

Question Number : 41 Question Id : 48558436426 Question Type : MCQ Option Shuffling : No Is Question Mandatory : No Calculator : None Response Time : N.A Think Time : N.A Minimum Instruction Time : 0

Correct Marks : 5 Wrong Marks : 1

Question Key Details :

Key	Value
Comprehension	Comp1

তলত দিয়া দফাটো পঢ়ি নিম্নোক্ত প্রশ্নৰ উত্তৰ দিয়া:

মানৱ দেহত 23 যোৰ ক্র'ম'জ'ম থাকে। তাৰে 22 যোৰ পুৰুষ আৰু মহিলা উভয়ৰে ক্ষেত্ৰত সম্পূৰ্ণ একে; এইবোৰ হৈছে অলিগ্ৰসূত্ৰ বা অট'জ'ম। অৱশিষ্ট ক্র'ম'জ'মযোৰৰ ক্ষেত্ৰত নাৰীৰ শৰীৰত এযোৰ X-ক্র'ম'জ'ম থাকে, আনহাতে এডাল X আৰু এডাল Y-ক্র'ম'জ'মৰ এটা যোৰা পুৰুষ দেহত পোৱা যায় যিয়ে পুৰুষ চৰিত্ৰ বা বৈশিষ্ট্য নিৰ্ণয় কৰে।

মানৱ শৰীৰত দেখা দিয়া এক বৃদ্ধন সংখ্যক বিসংগতি পৰিৱৰ্তিত বা বিকল্পিত জিন অথবা ক্র'ম'জ'মৰ বংশানুক্ৰমিক প্ৰবাহৰ লগত জড়িত বুলি জানিব পৰা গৈছে। জিনীয় বিসংগতিবোৰক বহুলভাৱে দুটা ভাগত ভগাব পৰা যায় - মেণ্ডেলীয় বিসংগতি আৰু ক্র'ম'জমীয় বা গুণসূত্ৰীয় বিসংগতি।

প্ৰথমটো সন্তান প্ৰত্যাশী দম্পতী এহালৰ সন্তানটি কন্যাসন্তান হোৱাৰ সম্ভাৱনীয়তা বা সম্ভাৱিতা কিমান?

1. শূন্য
2. 25%
3. 50%
4. 100%

Options :

485584145701. 1
485584145702. 2
485584145703. 3
485584145704. 4

Question Number : 42 Question Id : 48558436427 Question Type : MCQ Option Shuffling : No Is Question Mandatory : No Calculator : None Response Time : N.A Think Time : N.A Minimum Instruction Time : 0

Correct Marks : 5 Wrong Marks : 1

Question Key Details :

Key	Value
Comprehension	Comp1

Read the given paragraph and answer the question:

Humans have 23 pairs of chromosomes. 22 pairs are exactly same in both males and females; these are the autosomes. A pair of X-chromosome are present in the female, whereas the presence of an X and Y chromosome are determinant of the male characteristic.

A number of disorders in human beings have been found to be associated with the inheritance of changed or altered genes or chromosomes. Broadly, genetic disorder may be grouped into two categories-Mendelian disorders and Chromosomal disorders.

A disorder caused due to absence of one of the 'X' chromosome is -

1. Turner's Syndrome
2. Down's Syndrome
3. Klinefelter's Syndrome
4. Thalassemia

Options :

485584145705. 1
485584145706. 2
485584145707. 3
485584145708. 4

Question Number : 42 Question Id : 48558436427 Question Type : MCQ Option Shuffling : No Is Question Mandatory : No Calculator : None Response Time : N.A Think Time : N.A Minimum Instruction Time : 0

Correct Marks : 5 Wrong Marks : 1

Question Key Details :

Key	Value
Comprehension	Comp1

তলত দিয়া দফাটো পঢ়ি নিম্নোক্ত প্ৰশ্নৰ উত্তৰ দিয়া:

মানৱ দেহত 23 যোৰ ক্ৰ'ম'জ'ম থাকে। তাৰে 22 যোৰ পুৰুষ আৰু মহিলা উভয়ৰে ক্ষেত্ৰত সম্পূৰ্ণ একে; এইবোৰ হৈছে অলিঙ্গসূত্ৰ বা অট'জ'ম। অৱশিষ্ট ক্ৰ'ম'জ'মযোৰৰ ক্ষেত্ৰত নাৰীৰ শৰীৰত এযোৰ X-ক্ৰ'ম'জ'ম থাকে, আনহাতে এডাল X আৰু এডাল Y-ক্ৰ'ম'জ'মৰ এটা যোৰা পুৰুষ দেহত পোৱা যায় যিয়ে পুৰুষ চৰিত্ৰ বা বৈশিষ্ট্য নিৰ্ণয় কৰে।

মানৱ শৰীৰত দেখা দিয়া এক বৃদ্ধন সংখ্যক বিসংগতি পৰিৱৰ্তিত বা বিকল্পিত জিন অথবা ক্ৰ'ম'জ'মৰ বংশানুক্ৰমিক প্ৰবাহৰ লগত জড়িত বুলি জানিব পৰা গৈছে। জিনীয় বিসংগতিবোৰক বহলভাৱে দুটা ভাগত ভগাব পৰা যায় - মেণ্ডেলীয় বিসংগতি আৰু ক্ৰ'ম'জ'মীয় বা গুণসূত্ৰীয় বিসংগতি।

এডাল X ক্ৰ'ম'জ'মৰ অভাৱত দেখা দিয়া বিসংগতিবিধ হ'ল:

1. টাৰ্নাৰৰ সংলক্ষণ
2. ডাউনৰ সংলক্ষণ
3. ক্লেইনফেল্টাৰৰ সংলক্ষণ
4. থেলেছেমিয়া

Options :

485584145705. 1
485584145706. 2
485584145707. 3
485584145708. 4

Question Number : 43 Question Id : 48558436428 Question Type : MCQ Option Shuffling : No Is Question Mandatory : No Calculator : None Response Time : N.A Think Time : N.A Minimum Instruction Time : 0

Correct Marks : 5 Wrong Marks : 1

Question Key Details :

Key	Value
Comprehension	Comp1

Read the given paragraph and answer the question:

Humans have 23 pairs of chromosomes. 22 pairs are exactly same in both males and females; these are the autosomes. A pair of X-chromosome are present in the female, whereas the presence of an X and Y chromosome are determinant of the male characteristic.

A number of disorders in human beings have been found to be associated with the inheritance of changed or altered genes or chromosomes. Broadly, genetic disorder may be grouped into two categories-Mendelian disorders and Chromosomal disorders.

A haemophilic man marries a normal woman. What is the possibility that their child have haemophilia?

1. 75%
2. 25%
3. 0%
4. 50%

Options :

485584145709. 1
485584145710. 2
485584145711. 3
485584145712. 4

Question Number : 43 Question Id : 48558436428 Question Type : MCQ Option Shuffling : No Is Question Mandatory : No Calculator : None Response Time : N.A Think Time : N.A Minimum Instruction Time : 0

Correct Marks : 5 Wrong Marks : 1

Question Key Details :

Key	Value
Comprehension	Comp1

তলত দিয়া দফাটো পঢ়ি নিম্নোক্ত প্ৰশ্নৰ উত্তৰ দিয়া:

মানৱ দেহত 23 যোৰ ক্ৰ'ম'জ'ম থাকে। তাৰে 22 যোৰ পুৰুষ আৰু মহিলা উভয়ৰে ক্ষেত্ৰত সম্পূৰ্ণ একে; এইবোৰ হৈছে অলিঙ্গসূত্ৰ বা অট'জ'ম। অৱশিষ্ট ক্ৰ'ম'জ'মযোৰৰ ক্ষেত্ৰত নাৰীৰ শৰীৰত এযোৰ X-ক্ৰ'ম'জ'ম থাকে, আনহাতে এডাল X আৰু এডাল Y-ক্ৰ'ম'জ'মৰ এটা যোৰা পুৰুষ দেহত পোৱা যায় যিয়ে পুৰুষ চৰিত্ৰ বা বৈশিষ্ট্য নিৰ্ণয় কৰে।

মানৱ শৰীৰত দেখা দিয়া এক বুজন সংখ্যক বিসংগতি পৰিৱৰ্তিত বা বিকল্পিত জিন অথবা ক্ৰ'ম'জ'মৰ বংশানুক্ৰমিক প্ৰবাহৰ লগত জড়িত বুলি জানিব পৰা গৈছে। জিনীয় বিসংগতিবোৰক বহলভাৱে দুটা ভাগত ভগাব পৰা যায় - মেণ্ডেলীয় বিসংগতি আৰু ক্ৰ'ম'জ'মীয় বা গুণসূত্ৰীয় বিসংগতি।

হিম ফিলিয়া বা ৰক্তপ্ৰীতিত আক্ৰান্ত পুৰুষ এজনে এগৰাকী স্বাভাৱিক স্বাস্থ্যৰ মহিলাক বিয়া কৰাইছে। তেওঁলোকৰ সন্তান হিম ফিলিয়া বা ৰক্তপ্ৰীতিত আক্ৰান্ত হোৱাৰ সম্ভাৱনীয়তা বা সম্ভাৱিতা কিমান?

1. 75%
2. 25%
3. 0%
4. 50%

Options :

485584145709. 1
485584145710. 2
485584145711. 3
485584145712. 4

Question Number : 44 Question Id : 48558436429 Question Type : MCQ Option Shuffling : No Is Question Mandatory : No Calculator : None Response Time : N.A Think Time : N.A Minimum Instruction Time : 0

Correct Marks : 5 Wrong Marks : 1

Question Key Details :

Key	Value
Comprehension	Comp1

Read the given paragraph and answer the question:

Humans have 23 pairs of chromosomes. 22 pairs are exactly same in both males and females; these are the autosomes. A pair of X-chromosome are present in the female, whereas the presence of an X and Y chromosome are determinant of the male characteristic.

A number of disorders in human beings have been found to be associated with the inheritance of changed or altered genes or chromosomes. Broadly, genetic disorder may be grouped into two categories-Mendelian disorders and Chromosomal disorders.

Which of the following is an example of a sex linked disease?

1. Ascariasis
2. Colour blindness
3. Thalassemia
4. Phenylketonuria

Options :

485584145713. 1
485584145714. 2
485584145715. 3
485584145716. 4

Question Number : 44 Question Id : 48558436429 Question Type : MCQ Option Shuffling : No Is Question Mandatory : No Calculator : None Response Time : N.A Think Time : N.A Minimum Instruction Time : 0

Correct Marks : 5 Wrong Marks : 1

Question Key Details :

Key	Value
Comprehension	Comp1

তলত দিয়া দফাটো পঢ়ি নিম্নোক্ত প্ৰশ্নৰ উত্তৰ দিয়া:

মানৱ দেহত 23 যোৰ ক্ৰ'ম'জ'ম থাকে। তাৰে 22 যোৰ পুৰুষ আৰু মহিলা উভয়ৰে ক্ষেত্ৰত সম্পূৰ্ণ একে; এইবোৰ হৈছে অলিঙ্গসূত্ৰ বা অট'জ'ম। অৱশিষ্ট ক্ৰ'ম'জ'মযোৰৰ ক্ষেত্ৰত নাৰীৰ শৰীৰত এযোৰ X-ক্ৰ'ম'জ'ম থাকে, আনহাতে এডাল X আৰু এডাল Y-ক্ৰ'ম'জ'মৰ এটা যোৰা পুৰুষ দেহত পোৱা যায় যিয়ে পুৰুষ চৰিত্ৰ বা বৈশিষ্ট্য নিৰ্ণয় কৰে।

মানৱ শৰীৰত দেখা দিয়া এক বৃদ্ধন সংখ্যক বিসংগতি পৰিৱৰ্তিত বা বিকল্পিত জিন অথবা ক্ৰ'ম'জ'মৰ বংশানুক্ৰমিক প্ৰবাহৰ লগত জড়িত বুলি জানিব পৰা গৈছে। জিনীয় বিসংগতিবোৰক বহুলভাৱে দুটা ভাগত ভগাব পৰা যায় - মেণ্ডেলীয় বিসংগতি আৰু ক্ৰ'ম'জ'মীয় বা গুণসূত্ৰীয় বিসংগতি।

তলত দিয়া কোনটো ৰোগ ব্যক্তিৰ লিঙ্গ বা যৌনতাৰ লগত জড়িত ৰোগৰ উদাহৰণ?

1. এক্সেৰিয়াছিছ
2. বৰ্ণান্ধতা
3. খেলেছেমিয়া
4. ফিনাইলকিট'নিউৰিয়া

Options :

485584145713. 1
485584145714. 2
485584145715. 3
485584145716. 4

Question Number : 45 Question Id : 48558436430 Question Type : MCQ Option Shuffling : No Is Question Mandatory : No Calculator : None Response Time : N.A Think Time : N.A Minimum Instruction Time : 0

Correct Marks : 5 Wrong Marks : 1

Question Key Details :

Key	Value
Comprehension	Comp1

Read the given paragraph and answer the question:

Humans have 23 pairs of chromosomes. 22 pairs are exactly same in both males and females; these are the autosomes. A pair of X-chromosome are present in the female, whereas the presence of an X and Y chromosome are determinant of the male characteristic.

A number of disorders in human beings have been found to be associated with the inheritance of changed or altered genes or chromosomes. Broadly, genetic disorder may be grouped into two categories-Mendelian disorders and Chromosomal disorders.

A colour blind man marries a carrier woman. Choose the possible progeny outcome.

1. All sons are born colourblind, while 50% the daughter born will be normal.
2. All children (sons and daughters) are born colour blind.
3. All daughters are normal whereas 50% of the sons born will be colour blind.
4. 50% of daughters and 50% of sons born will be colour blind.

Options :

485584145717. 1

485584145718. 2

485584145719. 3

485584145720. 4

Question Number : 45 Question Id : 48558436430 Question Type : MCQ Option Shuffling : No Is Question Mandatory : No Calculator : None Response Time : N.A Think Time : N.A Minimum Instruction Time : 0

Correct Marks : 5 Wrong Marks : 1

Question Key Details :

Key	Value
Comprehension	Comp1

তলত দিয়া দফাটো পঢ়ি নিম্নোক্ত প্রশ্নৰ উত্তৰ দিয়া:

মানৱ দেহত 23 যোৰ ক্র'ম'জ'ম থাকে। তাৰে 22 যোৰ পুৰুষ আৰু মহিলা উভয়ৰে ক্ষেত্ৰত সম্পূৰ্ণ একে; এইবোৰ হৈছে অলিঙ্গসূত্ৰ বা অট'জ'ম। অৱশিষ্ট ক্র'ম'জ'মযোৰৰ ক্ষেত্ৰত নাৰীৰ শৰীৰত এযোৰ X-ক্র'ম'জ'ম থাকে, আনহাতে এডাল X আৰু এডাল Y-ক্র'ম'জ'মৰ এটা যোৰা পুৰুষ দেহত পোৱা যায় যিয়ে পুৰুষ চৰিত্ৰ বা বৈশিষ্ট্য নিৰ্ণয় কৰে।

মানৱ শৰীৰত দেখা দিয়া এক বৃদ্ধন সংখ্যক বিসংগতি পৰিৱৰ্তিত বা বিকল্পিত জিন অথবা ক্র'ম'জ'মৰ বংশানুক্ৰমিক প্ৰবাহৰ লগত জড়িত বুলি জানিব পৰা গৈছে। জিনীয় বিসংগতিবোৰক বহুলভাৱে দুটা ভাগত ভগাব পৰা যায় - মেণ্ডেলীয় বিসংগতি আৰু ক্র'ম'জ'মীয় বা গুণসূত্ৰীয় বিসংগতি।

বৰ্ণাঙ্কতাত আক্ৰান্ত পুৰুষ এজনে এগৰাকী বাহক মহিলাক বিয়া কৰাইছে। সন্তান প্ৰজন্মৰ সম্ভাৱ্য পৰিণতি তলত দিয়াবোৰৰপৰা চিনাক্ত কৰা।

1. দম্পতীহালৰ সকলো ল'ৰাসন্তান বৰ্ণাঙ্ক হৈ জন্ম পাব, আনহাতে তেওঁলোকে জন্ম দিয়া কন্যাসন্তানৰ 50%-ই স্বাভাৱিক হৈ জন্ম লাভ কৰিব।
2. দম্পতীহালৰ সকলো সন্তান (ল'ৰা আৰু কন্যা উভয়ে) বৰ্ণাঙ্ক হৈ জন্ম পাব।
3. দম্পতীহালৰ সকলো কন্যাসন্তান স্বাভাৱিক হৈ জন্ম পাব, আনহাতে তেওঁলোকে জন্ম দিয়া ল'ৰাসন্তানৰ 50%-ই বৰ্ণাঙ্ক হৈ জন্ম লাভ কৰিব।
4. দম্পতীহালে জন্ম দিয়া কন্যাসন্তানৰ 50% তথা তেওঁলোকৰ মুঠ ল'ৰাসন্তানৰো 50%-ই বৰ্ণাঙ্ক হৈ জন্ম লাভ কৰিব।

Options :

485584145717. 1
485584145718. 2
485584145719. 3
485584145720. 4

Sub-Section Number :

3

Sub-Section Id :

4855842692

Question Shuffling Allowed :

No

Is Section Default? :

null

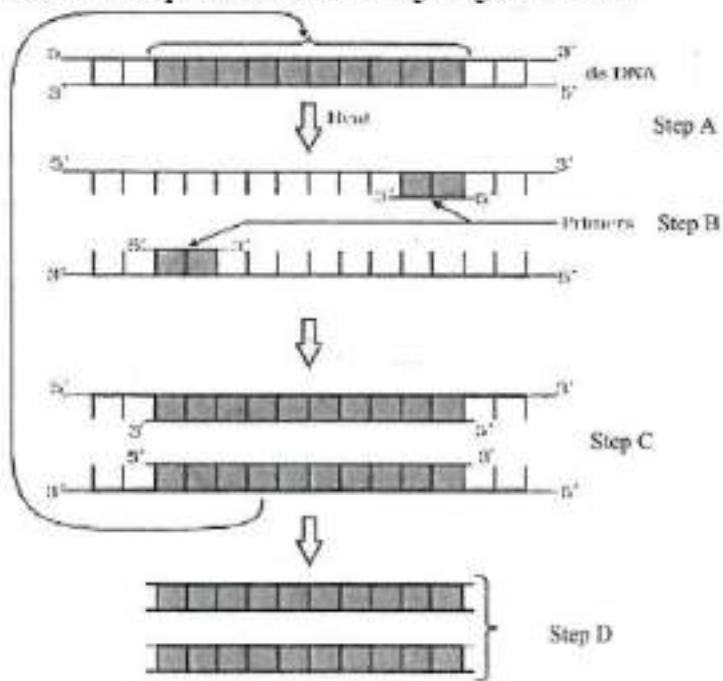
Question Number : 46 Question Id : 48558436431 Question Type : MCQ Option Shuffling : No Is Question Mandatory : No Calculator : None Response Time : N.A Think Time : N.A Minimum Instruction Time : 0

Correct Marks : 5 Wrong Marks : 1

Question Key Details :

Key	Value
Comprehension	Comp2

Answer the questions from the figure given below:



If the reaction starts with one molecule of DNA, the number of cycles required to produce one billion amplified products is:

1. 8 cycles
2. 16 cycles
3. 30 cycles
4. 25 cycles

Options :

485584145721. 1
 485584145722. 2
 485584145723. 3
 485584145724. 4

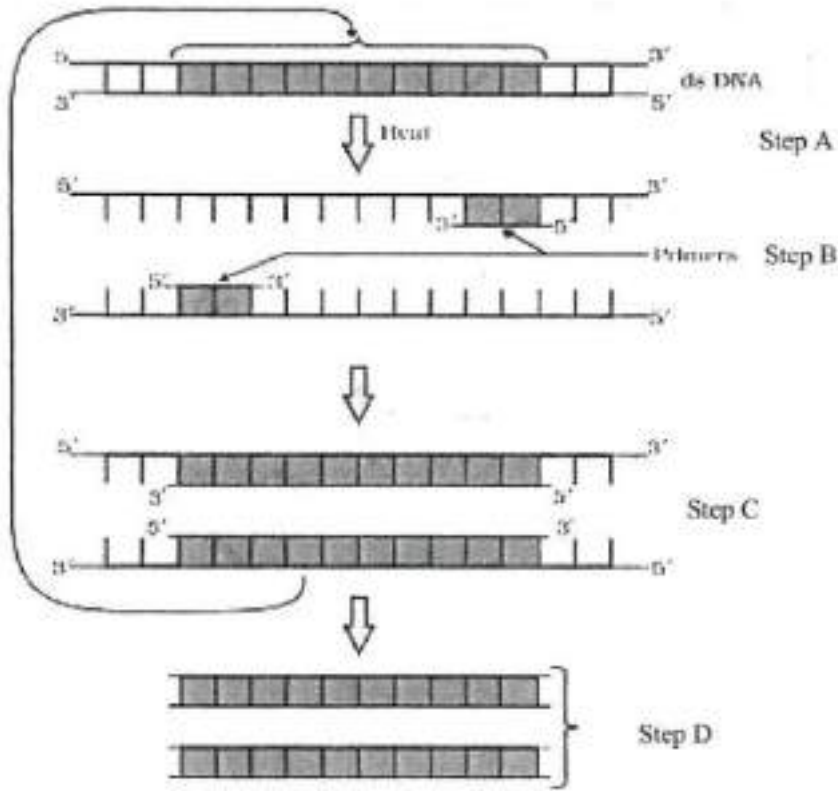
Question Number : 46 Question Id : 48558436431 Question Type : MCQ Option Shuffling : No Is Question Mandatory : No Calculator : None Response Time : N.A Think Time : N.A Minimum Instruction Time : 0

Correct Marks : 5 Wrong Marks : 1

Question Key Details :

Key	Value
Comprehension	Comp2

তলত দিয়া চিত্ৰটোৰপৰা নিম্নোক্ত প্ৰশ্নৰ উত্তৰ দিয়া:



যদি বিক্ৰিয়াটো 1 ম'ডিউল ডি.এন.এ (DNA)-ৰে আৰম্ভ হয়, তেন্তে 1 বিলিয়ন পৰিবৰ্দ্ধিত বিক্ৰিয়াজাত দ্ৰব্য উৎপন্ন কৰিবলৈ প্ৰয়োজনীয় চক্ৰৰ সংখ্যা হ'ব:

1. 8 টা চক্ৰ
2. 16 টা চক্ৰ
3. 30 টা চক্ৰ
4. 25 টা চক্ৰ

Options :

485584145721. 1
485584145722. 2
485584145723. 3
485584145724. 4

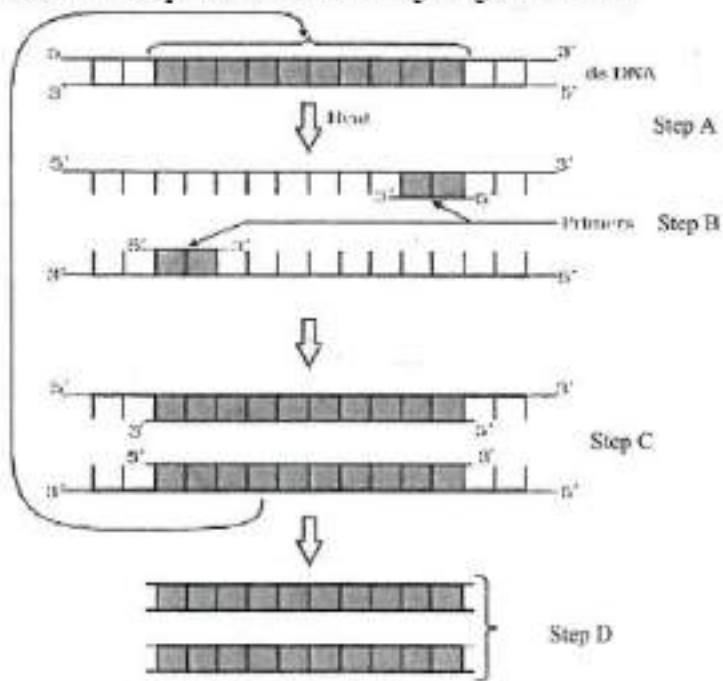
Question Number : 47 Question Id : 48558436432 Question Type : MCQ Option Shuffling : No Is Question Mandatory : No Calculator : None Response Time : N.A Think Time : N.A Minimum Instruction Time : 0

Correct Marks : 5 Wrong Marks : 1

Question Key Details :

Key	Value
Comprehension	Comp2

Answer the questions from the figure given below:



'Taq' in Taq polymerase stands for:

1. *Thermal aqua*
2. *Thermal aquaticus*
3. *Thermas aqua*
4. *Thermus aquaticus*

Options :

485584145725. 1
 485584145726. 2
 485584145727. 3
 485584145728. 4

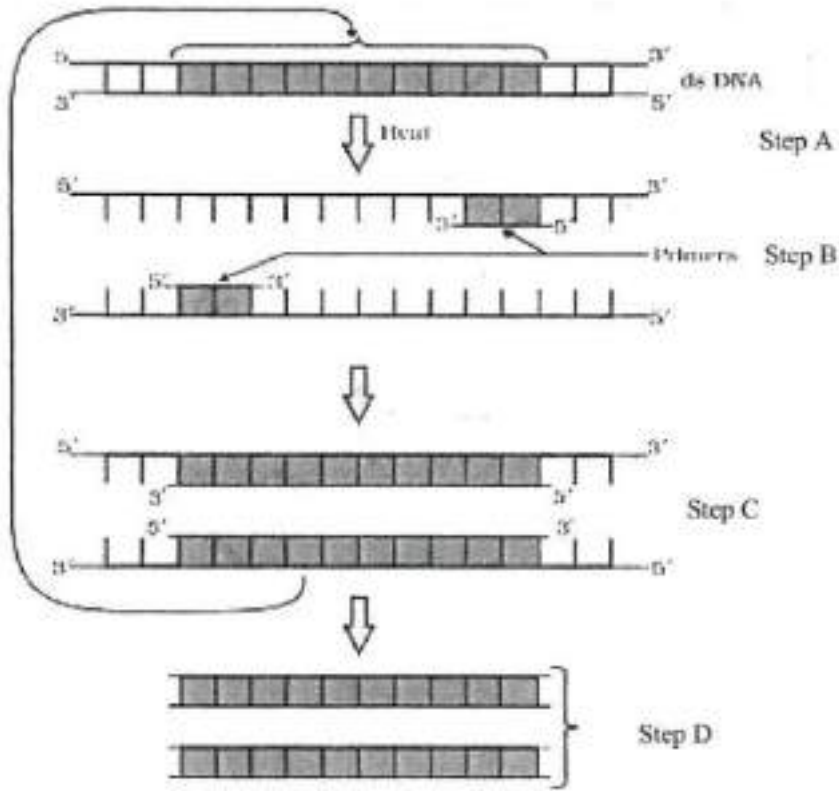
Question Number : 47 Question Id : 48558436432 Question Type : MCQ Option Shuffling : No Is Question Mandatory : No Calculator : None Response Time : N.A Think Time : N.A Minimum Instruction Time : 0

Correct Marks : 5 Wrong Marks : 1

Question Key Details :

Key	Value
Comprehension	Comp2

তলত দিয়া চিত্ৰটোৰপৰা নিম্নোক্ত প্ৰশ্নৰ উত্তৰ দিয়া:



Taq পলিমিৰেজত 'Taq'-ৰ অৰ্থ হ'ল:

1. থাৰ্মেল একুৱা (*Thermal aqua*)
2. থাৰ্মেল একুৱাটিকাছ (*Thermal aquaticus*)
3. থাৰ্মেছ একুৱা (*Thermas aqua*)
4. থাৰ্মাছ একুৱাটিকাছ (*Thermus aquaticus*)

Options :

485584145725. 1
485584145726. 2
485584145727. 3
485584145728. 4

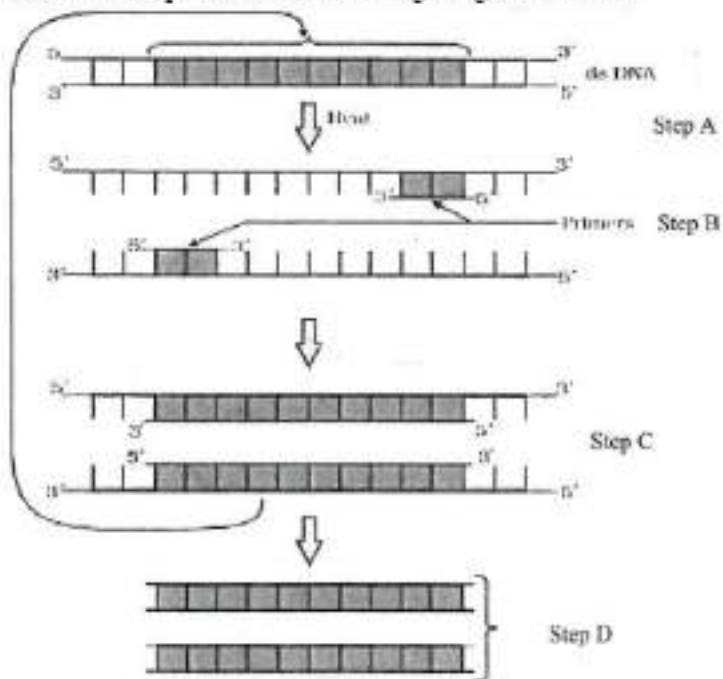
Question Number : 48 Question Id : 48558436433 Question Type : MCQ Option Shuffling : No Is Question Mandatory : No Calculator : None Response Time : N.A Think Time : N.A Minimum Instruction Time : 0

Correct Marks : 5 Wrong Marks : 1

Question Key Details :

Key	Value
Comprehension	Comp2

Answer the questions from the figure given below:



Taq polymerase is the preferred DNA polymerase in PCR because :

1. It is obtained from a fast breeding bacteria.
2. It can bind with the primers efficiently.
3. It remains active during high temperature.
4. It has high turnover rate.

Options :

- 485584145729. 1
- 485584145730. 2
- 485584145731. 3
- 485584145732. 4

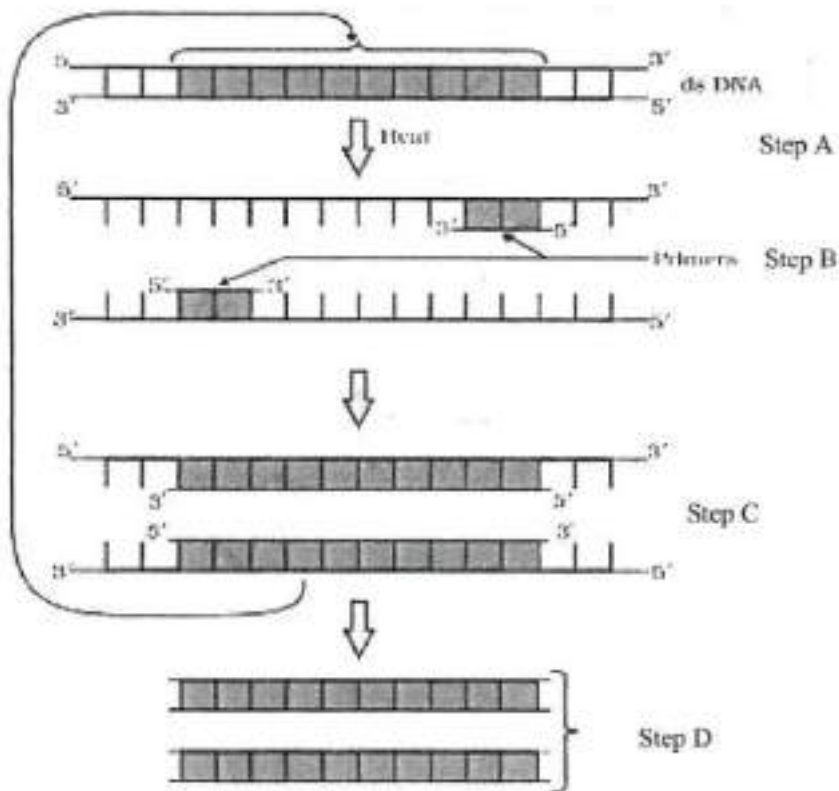
Question Number : 48 Question Id : 48558436433 Question Type : MCQ Option Shuffling : No Is Question Mandatory : No Calculator : None Response Time : N.A Think Time : N.A Minimum Instruction Time : 0

Correct Marks : 5 Wrong Marks : 1

Question Key Details :

Key	Value
Comprehension	Comp2

তলত দিয়া চিত্ৰটোৰপৰা নিম্নোক্ত প্ৰশ্নৰ উত্তৰ দিয়া:



প'লিমেৰেজ শৃংখল বিক্ৰিয়াৰ (PCR) ক্ষেত্ৰত উপযুক্ত প'লিমেৰেজটো হ'ল *Taq* প'লিমেৰেজ; কাৰণ:

1. ইয়াক এক দ্রুত হাৰত বংশবৃদ্ধি কৰা বেক্টেৰিয়াৰপৰা আহৰণ কৰা হয়।
2. ই প্ৰাৰম্ভকবিলাকৰ সৈতে সুদক্ষতাৰে বান্ধ খাই পাৰে।
3. ই উচ্চ উষ্ণতাতো সক্ৰিয় হৈ থাকে।
4. ইয়াৰ টাৰ্নঅ'ভাৰ বা ক'পান্তৰণ ক্ষমতাৰ হাৰ উচ্চ।

Options :

- 485584145729. 1
- 485584145730. 2
- 485584145731. 3
- 485584145732. 4

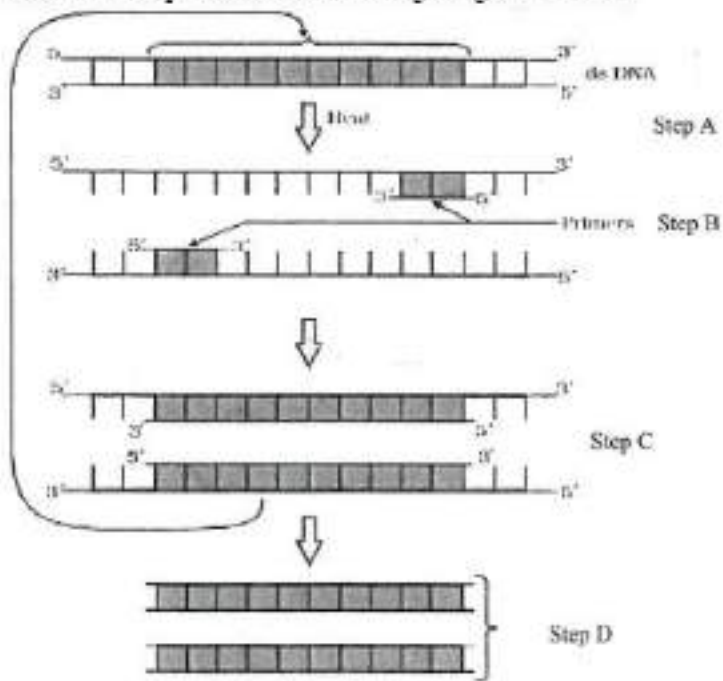
Question Number : 49 Question Id : 48558436434 Question Type : MCQ Option Shuffling : No Is Question Mandatory : No Calculator : None Response Time : N.A Think Time : N.A Minimum Instruction Time : 0

Correct Marks : 5 Wrong Marks : 1

Question Key Details :

Key	Value
Comprehension	Comp2

Answer the questions from the figure given below:



The step 'D' in the figure depicts:

1. Region where the restriction enzyme cuts.
2. An important gene of interest
3. Primer joining region
4. Only amplified product

Options :

- 485584145733. 1
- 485584145734. 2
- 485584145735. 3
- 485584145736. 4

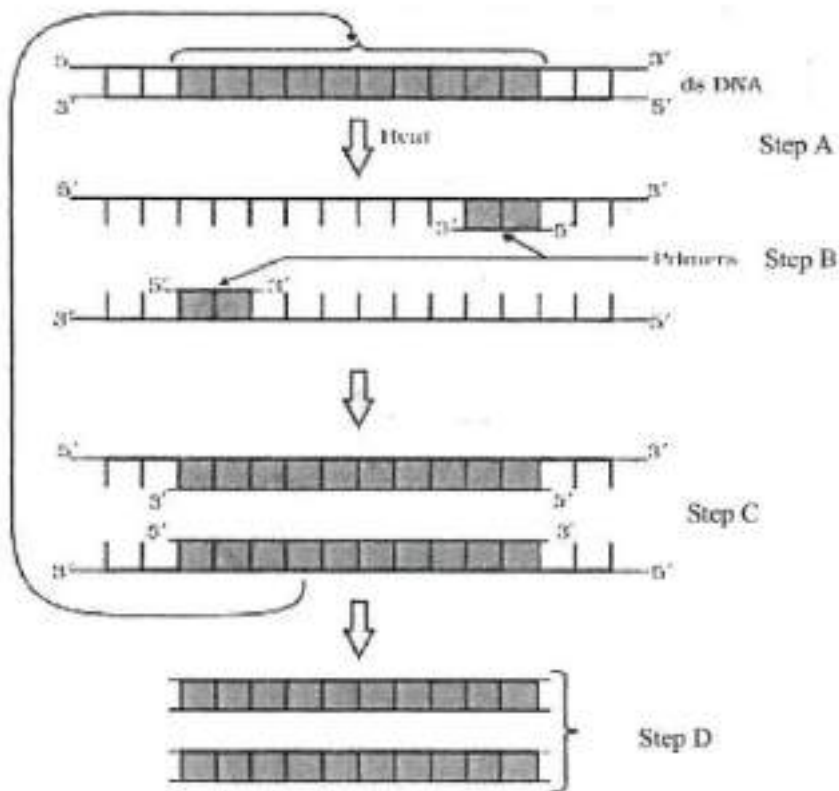
Question Number : 49 Question Id : 48558436434 Question Type : MCQ Option Shuffling : No Is Question Mandatory : No Calculator : None Response Time : N.A Think Time : N.A Minimum Instruction Time : 0

Correct Marks : 5 Wrong Marks : 1

Question Key Details :

Key	Value
Comprehension	Comp2

তলত দিয়া চিত্ৰটোৰপৰা নিম্নোক্ত প্ৰশ্নৰ উত্তৰ দিয়া:



চিত্ৰত দেখুওৱা "D" স্তৰটোৱে সূচাইছে:

1. বিদারণ বা ৰেপ্লিকছান উৎসেচক বা এনযাইমে ছেদন কৰা অঞ্চল
2. এক গুৰুত্বপূৰ্ণ জিন (জিন অফ ইণ্টাৰেষ্ট)
3. প্ৰাৰম্ভকৰদ্বাৰা সংযুক্ত অঞ্চল
4. কেৱল পৰিবৰ্দ্ধিত উৎপাদিত দ্ৰব্য

Options :

485584145733. 1
485584145734. 2
485584145735. 3
485584145736. 4

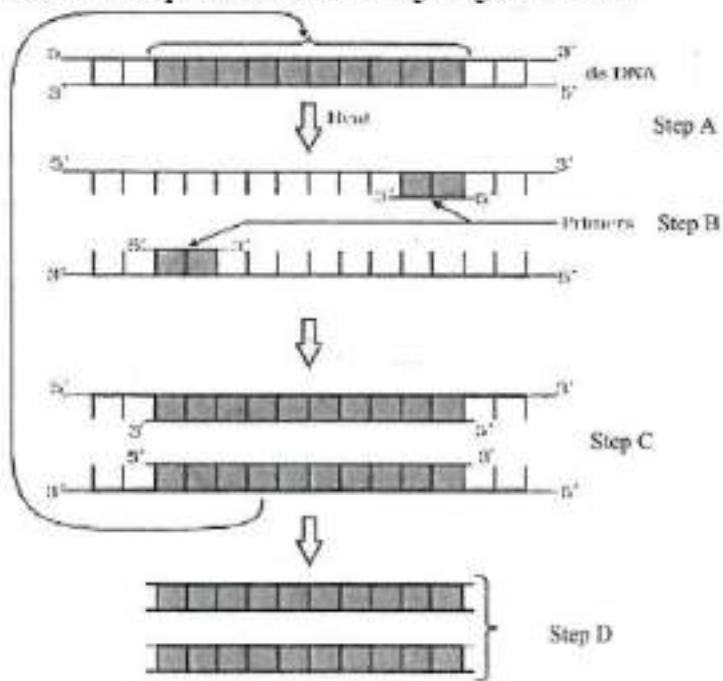
Question Number : 50 Question Id : 48558436435 Question Type : MCQ Option Shuffling : No Is Question Mandatory : No Calculator : None Response Time : N.A Think Time : N.A Minimum Instruction Time : 0

Correct Marks : 5 Wrong Marks : 1

Question Key Details :

Key	Value
Comprehension	Comp2

Answer the questions from the figure given below:



The step 'B' in the figure is called as:

1. Termination
2. Extension
3. Annealing
4. Reannealing

Options :

485584145737. 1
 485584145738. 2
 485584145739. 3
 485584145740. 4

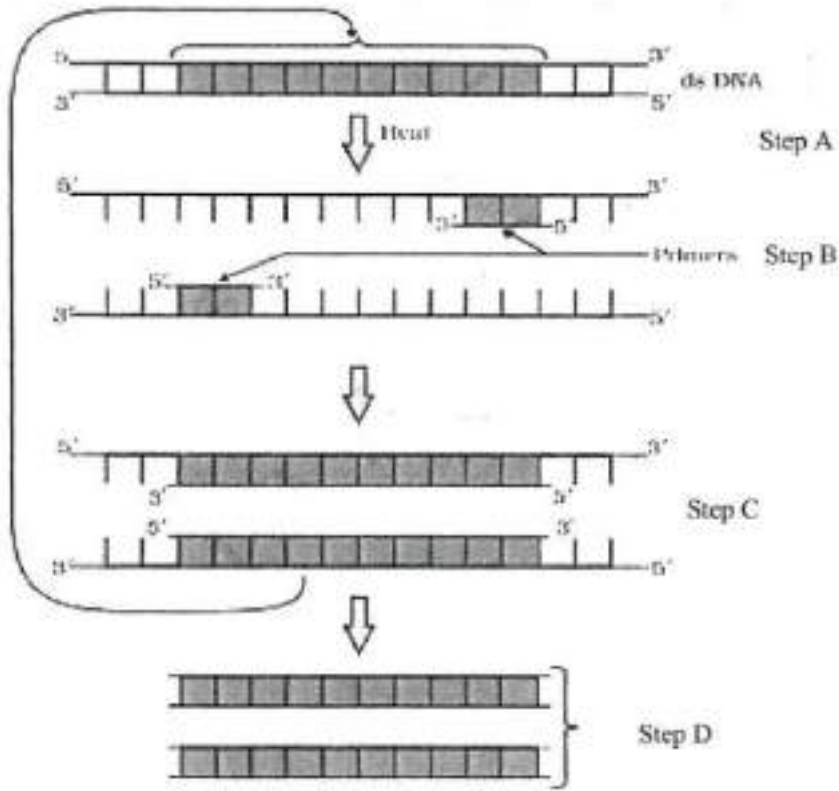
Question Number : 50 Question Id : 48558436435 Question Type : MCQ Option Shuffling : No Is Question Mandatory : No Calculator : None Response Time : N.A Think Time : N.A Minimum Instruction Time : 0

Correct Marks : 5 Wrong Marks : 1

Question Key Details :

Key	Value
Comprehension	Comp2

তলত দিয়া চিত্ৰটোৰপৰা নিম্নোক্ত প্ৰশ্নৰ উত্তৰ দিয়া:



চিত্ৰত দেখুওৱা "B" স্তৰটোক কোৱা হয়:

1. সমাপন (টাৰ্মিনেছন)
2. সম্প্ৰসাৰণ (এক্সটেনছন)
3. মস্তুৰ শীতলীকৰণ (এন্থীলিং)
4. মস্তুৰ পুনঃশীতলীকৰণ (ৰি-এন্থীলিং)

Options :

485584145737. 1
485584145738. 2
485584145739. 3
485584145740. 4

Business Studies

Group Number :	3
Group Id :	485584823
Group Maximum Duration :	45
Group Minimum Duration :	45
Show Attended Group? :	No
Edit Attended Group? :	No
Break time :	0

Group Marks : 200
Is this Group for Examiner? : No
Examiner permission : Cant View
Show Progress Bar? : No

Business Studies

Section Id : 485584947
Section Number : 1
Section type : Online
Mandatory or Optional : Mandatory
Number of Questions : 50
Number of Questions to be attempted : 40
Section Marks : 200
Enable Mark as Answered Mark for Review and Clear Response : Yes
Maximum Instruction Time : 0
Sub-Section Number : 1
Sub-Section Id : 4855842693
Question Shuffling Allowed : Yes
Is Section Default? : null

Question Number : 51 Question Id : 48558436436 Question Type : MCQ Option Shuffling : No Is Question Mandatory : No Calculator : None Response Time : N.A Think Time : N.A Minimum Instruction Time : 0

Correct Marks : 5 Wrong Marks : 1

Question Key Details :

Key	Value
Comprehension	MCQ

Which of the following is not an importance of management ?

1. Management is group activity
2. Management creates a dynamic organization
3. Management helps in the development of society
4. Management increases efficiency

Options :

485584145741. 1
485584145742. 2
485584145743. 3
485584145744. 4

Question Number : 51 Question Id : 48558436436 Question Type : MCQ Option Shuffling : No Is Question Mandatory : No Calculator : None Response Time : N.A Think Time : N.A Minimum Instruction Time : 0

Correct Marks : 5 Wrong Marks : 1

Question Key Details :

Key	Value
Comprehension	MCQ

তলৰ কোনটো পৰিচালনা বা ব্যৱস্থাপনাৰ বাবে গুৰুত্বপূৰ্ণ নহয় ?

1. পৰিচালনা বা ব্যৱস্থাপনা দলীয় কাৰ্য্য
2. ব্যৱস্থাপনাই গতিশীল সংগঠনৰ সূচনা কৰে
3. ব্যৱস্থাপনা সমাজৰ উন্নয়নত সহায়ক
4. ব্যৱস্থাপনাই নিপুণতা বৃদ্ধি কৰে

Options :

485584145741. 1
485584145742. 2
485584145743. 3
485584145744. 4

Question Number : 52 Question Id : 48558436437 Question Type : MCQ Option Shuffling : No Is Question Mandatory : No Calculator : None Response Time : N.A Think Time : N.A Minimum Instruction Time : 0

Correct Marks : 5 Wrong Marks : 1

Question Key Details :

Key	Value
Comprehension	MCQ

Mc.Donalds, the fast food giant made major changes in its menu to be able to survive in Indian market. Which feature of management is reflected in above case ?

1. Management is an intangible force
2. Management is a dynamic function
3. Management is all pervasive
4. Management is multidimensional

Options :

485584145745. 1
485584145746. 2
485584145747. 3
485584145748. 4

Question Number : 52 Question Id : 48558436437 Question Type : MCQ Option Shuffling : No Is Question Mandatory : No Calculator : None Response Time : N.A Think Time : N.A Minimum Instruction Time : 0

Correct Marks : 5 Wrong Marks : 1

Question Key Details :

Key	Value
Comprehension	MCQ

মেকডনান্ড খৰুকাীয়া খাদ্য প্ৰস্তুতকাৰী ভাৰতীয় বজাৰত জীয়াই থাকিবৰ বাবে কিছুমান গুৰু পৰিবৰ্তন কৰিছে।
পৰিচালনাৰ কোনটো লক্ষণ উপৰুক্ত ক্ষেত্ৰত প্ৰতিফলিত হৈছে

1. পৰিচালনা অদৃশ্যমান শক্তি হিচাপে
2. পৰিচালনাৰ গতিশীল কাৰ্য হিচাপে
3. পৰিচালনাৰ ব্যাপ্ততা
4. পৰিচালনা বহুদিশ সমন্বিত

Options :

485584145745. 1
485584145746. 2
485584145747. 3
485584145748. 4

**Question Number : 53 Question Id : 48558436438 Question Type : MCQ Option Shuffling : No Is Question Mandatory :
No Calculator : None Response Time : N.A Think Time : N.A Minimum Instruction Time : 0**

Correct Marks : 5 Wrong Marks : 1

Question Key Details :

Key	Value
Comprehension	MCQ

"Planning is an Activity which enables a manager to look ahead and anticipate changes." Identify the point of
Importance of Planning

1. Planning reduces the risk of uncertainty
2. Planning facilitates decision making
3. Planning establishes standards for controlling
4. Planning provide directions

Options :

485584145749. 1
485584145750. 2
485584145751. 3
485584145752. 4

**Question Number : 53 Question Id : 48558436438 Question Type : MCQ Option Shuffling : No Is Question Mandatory :
No Calculator : None Response Time : N.A Think Time : N.A Minimum Instruction Time : 0**

Correct Marks : 5 Wrong Marks : 1

Question Key Details :

Key	Value
Comprehension	MCQ

"পৰিচালনা হ'ল এনে কাৰ্য্য যিয়ে পৰিচালক সকলক আগলৈ চোৱাত আৰু পৰিবৰ্তনৰ প্ৰত্যাশ্যা কৰায়" পৰিচালনাৰ প্ৰয়োজনীয়তা চিহ্নিত কৰা

1. পৰিচালনাই অনিশ্চয়তাৰ শংক দূৰ কৰে
2. পৰিচালনাই সিদ্ধান্ত সুচল কৰে
3. পৰিচালনাই নিয়ন্ত্ৰণৰ মান প্ৰতিস্থাপন কৰে
4. পৰিচালনাই নিৰ্দেশ প্ৰদান কৰে

Options :

485584145749. 1
485584145750. 2
485584145751. 3
485584145752. 4

Question Number : 54 Question Id : 48558436439 Question Type : MCQ Option Shuffling : No Is Question Mandatory : No Calculator : None Response Time : N.A Think Time : N.A Minimum Instruction Time : 0

Correct Marks : 5 Wrong Marks : 1

Question Key Details :

Key	Value
Comprehension	MCQ

Ravi is working as supervisor with Zinc limited. Identify the level of management at which Ravi is employed.

1. Top Management
2. Middle Management
3. Operational Management
4. Apex Management

Options :

485584145753. 1
485584145754. 2
485584145755. 3
485584145756. 4

Question Number : 54 Question Id : 48558436439 Question Type : MCQ Option Shuffling : No Is Question Mandatory : No Calculator : None Response Time : N.A Think Time : N.A Minimum Instruction Time : 0

Correct Marks : 5 Wrong Marks : 1

Question Key Details :

Key	Value
Comprehension	MCQ

ৰবিয়ে জিংক লিমিটেডত তত্ত্বাবধায়ক হিচাপে কাম কৰি আছে। ৰবি নিয়োজিত হোৱা পৰিচালনাৰ স্তৰ চিনাক্ত কৰা।

1. উচ্চ ব্যৱস্থাপনা
2. মধ্যস্তৰৰ ব্যৱস্থাপনা
3. অপাৰেশ্যনেল ব্যৱস্থাপনা
4. শীৰ্ষ সিদ্ধান্তকাৰী মেনেজমেন্ট

Options :

485584145753. 1
485584145754. 2
485584145755. 3
485584145756. 4

Question Number : 55 Question Id : 48558436440 Question Type : MCQ Option Shuffling : No Is Question Mandatory : No Calculator : None Response Time : N.A Think Time : N.A Minimum Instruction Time : 0

Correct Marks : 5 Wrong Marks : 1

Question Key Details :

Key	Value
Comprehension	MCQ

In this type of Organizational structure, the cost may increase since there may be a duplication of activities across products. Identify the organizational structure.

1. Functional Structure
2. Delegated Structure
3. Divisional Structure
4. Informal Structure

Options :

485584145757. 1
485584145758. 2
485584145759. 3
485584145760. 4

Question Number : 55 Question Id : 48558436440 Question Type : MCQ Option Shuffling : No Is Question Mandatory : No Calculator : None Response Time : N.A Think Time : N.A Minimum Instruction Time : 0

Correct Marks : 5 Wrong Marks : 1

Question Key Details :

Key	Value
Comprehension	MCQ

এনে প্ৰকাৰৰ সংগঠনৰ উৎপাদিত সামগ্ৰী মাজৰ কাৰ্যৱহী অধিকলতাৰ বাবে খৰছ বৃদ্ধি হব পাৰে

1. কাৰ্যিক গাঠনি
2. প্ৰতিনিধিত্ব মূলক গাঠনি
3. বিভাগীয় গাঠনি
4. অনানুষ্ঠানিক গাঠনি

Options :

485584145757. 1
485584145758. 2
485584145759. 3
485584145760. 4

**Question Number : 56 Question Id : 48558436441 Question Type : MCQ Option Shuffling : No Is Question Mandatory :
No Calculator : None Response Time : N.A Think Time : N.A Minimum Instruction Time : 0**

Correct Marks : 5 Wrong Marks : 1

Question Key Details :

Key	Value
Comprehension	MCQ

Divisional Structure is based on _____.

1. Product Lines
2. Functional Lines
3. Informal Basis
4. Occupational Specialization

Options :

485584145761. 1
485584145762. 2
485584145763. 3
485584145764. 4

**Question Number : 56 Question Id : 48558436441 Question Type : MCQ Option Shuffling : No Is Question Mandatory :
No Calculator : None Response Time : N.A Think Time : N.A Minimum Instruction Time : 0**

Correct Marks : 5 Wrong Marks : 1

Question Key Details :

Key	Value
Comprehension	MCQ

বিভাগীয় গাঁথনি _____ ওপৰত নিৰ্ভৰ কৰে

1. উৎপাদনৰ গতিপথ
2. কাৰ্য্যকৰী গতিপথ
3. অনানুষ্ঠানিক ভিত্তি
4. বৃত্তিগত বিশেষীকৰণ

Options :

485584145761. 1
485584145762. 2
485584145763. 3
485584145764. 4

Question Number : 57 Question Id : 48558436442 Question Type : MCQ Option Shuffling : No Is Question Mandatory : No Calculator : None Response Time : N.A Think Time : N.A Minimum Instruction Time : 0

Correct Marks : 5 Wrong Marks : 1

Question Key Details :

Key	Value
Comprehension	MCQ

_____ can be delegated.

1. Responsibility
2. Authority
3. Accountability
4. Answerability

Options :

485584145765. 1
485584145766. 2
485584145767. 3
485584145768. 4

Question Number : 57 Question Id : 48558436442 Question Type : MCQ Option Shuffling : No Is Question Mandatory : No Calculator : None Response Time : N.A Think Time : N.A Minimum Instruction Time : 0

Correct Marks : 5 Wrong Marks : 1

Question Key Details :

Key	Value
Comprehension	MCQ

_____ তলৰ পৰ্য্যায়লৈ ঠেলিব পৰা যায়।

1. দায়িত্বশীলতা
2. ক্ষমতা
3. দায়বদ্ধতা
4. জ্বাৰদিহী

Options :

485584145765. 1
485584145766. 2
485584145767. 3
485584145768. 4

Question Number : 58 Question Id : 48558436443 Question Type : MCQ Option Shuffling : No Is Question Mandatory : No Calculator : None Response Time : N.A Think Time : N.A Minimum Instruction Time : 0

Correct Marks : 5 Wrong Marks : 1

Question Key Details :

Key	Value
Comprehension	MCQ

_____ Test is a measure of individuals potential for learning new skills.

1. Trade tests
2. Personality tests
3. Aptitude tests
4. Intelligence tests

Options :

485584145769. 1
485584145770. 2
485584145771. 3
485584145772. 4

Question Number : 58 Question Id : 48558436443 Question Type : MCQ Option Shuffling : No Is Question Mandatory : No Calculator : None Response Time : N.A Think Time : N.A Minimum Instruction Time : 0

Correct Marks : 5 Wrong Marks : 1

Question Key Details :

Key	Value
Comprehension	MCQ

ব্যক্তি এজনৰ নতুন দক্ষতা শিক্ষণৰ সামৰ্থ্যতাৰ পৰিমাণ

1. বেহাবেনাৰ পৰীক্ষণ
2. ব্যক্তিত্বৰ পৰীক্ষণ
3. দৃষ্টিভংগীৰ পৰীক্ষণ
4. বুদ্ধিমত্তাৰ পৰীক্ষণ

Options :

485584145769. 1
485584145770. 2
485584145771. 3
485584145772. 4

Question Number : 59 Question Id : 48558436444 Question Type : MCQ Option Shuffling : No Is Question Mandatory : No Calculator : None Response Time : N.A Think Time : N.A Minimum Instruction Time : 0

Correct Marks : 5 Wrong Marks : 1

Question Key Details :

Key	Value
Comprehension	MCQ

"Many reputed organizations keep a database of unsolicited applications in their offices based on which a list of job-seekers can be prepared and can be screened to fill the vacancies as they arise". Identify the source referred of recruitment above.

1. Direct Recruitment
2. Campus Recruitment
3. Labour Contractors
4. Casual Callers

Options :

485584145773. 1
485584145774. 2
485584145775. 3
485584145776. 4

Question Number : 59 Question Id : 48558436444 Question Type : MCQ Option Shuffling : No Is Question Mandatory : No Calculator : None Response Time : N.A Think Time : N.A Minimum Instruction Time : 0

Correct Marks : 5 Wrong Marks : 1

Question Key Details :

Key	Value
Comprehension	MCQ

"বহু প্রতিষ্ঠিত সংগঠনে ইচ্ছাহীন আবেদনৰ এটা তথ্যভিত্তি তেওঁলোকৰ কাৰ্য্যালয়ত ৰাখি থয়, যৰ ওপৰত ভিত্তি কৰি চাকৰি প্ৰাৰ্থী এজনৰ তালিকা প্ৰস্তুত কৰে আৰু যেতিয়া পদ খালী হয় তেতিয়া তাক পূৰ কৰিবলৈ বাচি উলিয়াই"। ইয়াৰ ওপৰত ভিত্তি কৰি মকৰলৰ উৎস চিহ্নিত কৰা।

1. প্ৰত্যক্ষ মকৰল
2. চৌহদ মকৰল
3. শ্ৰমিক দালাল
4. ভাষ্কৰিক নিমন্ত্ৰক

Options :

485584145773. 1
485584145774. 2
485584145775. 3
485584145776. 4

Question Number : 60 Question Id : 48558436445 Question Type : MCQ Option Shuffling : No Is Question Mandatory : No Calculator : None Response Time : N.A Think Time : N.A Minimum Instruction Time : 0

Correct Marks : 5 Wrong Marks : 1

Question Key Details :

Key	Value
Comprehension	MCQ

It involves shifting of an employee from one job to another, one department to another or from one shift to another, without a substantive change in the responsibilities and status of an employee. It is known as _____.

1. Training
2. Transfer
3. Promotion
4. Development

Options :

485584145777. 1
485584145778. 2
485584145779. 3
485584145780. 4

Question Number : 60 Question Id : 48558436445 Question Type : MCQ Option Shuffling : No Is Question Mandatory : No Calculator : None Response Time : N.A Think Time : N.A Minimum Instruction Time : 0

Correct Marks : 5 Wrong Marks : 1

Question Key Details :

Key	Value
Comprehension	MCQ

কৰ্মচাৰী এজেন্ডাৰ দায়িত্বশীলতা আৰু পদমৰ্যাদাৰ পৰিবৰ্তন নোহোৱাকৈ ই এজেন্ডা কৰ্মচাৰীক এটা চাকৰিৰ পৰা আন এটা চাকৰিত, এটা বিভাগৰ পৰা আন এটা বিভাগত পৰিবৰ্তনত জড়িত কৰায়

1. প্ৰশিক্ষণ
2. স্থানান্তৰ
3. পদোন্নতি
4. উন্নয়ন

Options :

485584145777. 1
485584145778. 2
485584145779. 3
485584145780. 4

Question Number : 61 Question Id : 48558436446 Question Type : MCQ Option Shuffling : No Is Question Mandatory : No Calculator : None Response Time : N.A Think Time : N.A Minimum Instruction Time : 0

Correct Marks : 5 Wrong Marks : 1

Question Key Details :

Key	Value
Comprehension	MCQ

Organizational barriers to communication do not include :

1. Rules and regulations
2. Status
3. Organizational Policy
4. Lack of attention

Options :

485584145781. 1
485584145782. 2
485584145783. 3
485584145784. 4

Question Number : 61 Question Id : 48558436446 Question Type : MCQ Option Shuffling : No Is Question Mandatory : No Calculator : None Response Time : N.A Think Time : N.A Minimum Instruction Time : 0

Correct Marks : 5 Wrong Marks : 1

Question Key Details :

Key	Value
Comprehension	MCQ

যোগাযোগৰ সাংগঠনিক প্ৰতিবন্ধকতাৰ অন্তৰ্ভুক্ত নহয়:

1. নীতি-নিয়ম
2. মৰ্যাদা
3. সাংগঠনিক পলিচি
4. মনোযোগৰ অভাৱ

Options :

485584145781. 1
485584145782. 2
485584145783. 3
485584145784. 4

Question Number : 62 Question Id : 48558436447 Question Type : MCQ Option Shuffling : No Is Question Mandatory : No Calculator : None Response Time : N.A Think Time : N.A Minimum Instruction Time : 0

Correct Marks : 5 Wrong Marks : 1

Question Key Details :

Key	Value
Comprehension	MCQ

_____ means giving more autonomy and power to subordinates. This feeling contributes positively to the use of skills and talents in the job performance.

1. Employee Recognition Programme
2. Employee Empowerment
3. Status
4. Job Security

Options :

485584145785. 1
485584145786. 2
485584145787. 3
485584145788. 4

Question Number : 62 Question Id : 48558436447 Question Type : MCQ Option Shuffling : No Is Question Mandatory : No Calculator : None Response Time : N.A Think Time : N.A Minimum Instruction Time : 0

Correct Marks : 5 Wrong Marks : 1

Question Key Details :

Key	Value
Comprehension	MCQ

অধিনস্ত বেছিকৈ ক্ষমতা দিয়ে আৰু স্বশাসিত কৰে। এনে অনুভবে কৰ্মসম্পাদনত দক্ষতাৰ আৰু বুদ্ধিমত্তাৰ ধনাত্মক ব্যৱহাৰ কৰাই

1. কৰ্মচাৰীৰ স্বীকৃতি আচনি
2. কৰ্মচাৰীৰ কতৃত্ব
3. মৰ্য্যাদা
4. কৰ্ম নিৰাপত্তা

Options :

485584145785. 1
485584145786. 2
485584145787. 3
485584145788. 4

Question Number : 63 Question Id : 48558436448 Question Type : MCQ Option Shuffling : No Is Question Mandatory : No Calculator : None Response Time : N.A Think Time : N.A Minimum Instruction Time : 0

Correct Marks : 5 Wrong Marks : 1

Question Key Details :

Key	Value
Comprehension	MCQ

Which type of leader does not believe in the use of power unless it is absolutely essential ?

1. Free-rein / Laissez faire leader
2. Democratic leader
3. Autocratic leader
4. Participative leader

Options :

485584145789. 1
485584145790. 2
485584145791. 3
485584145792. 4

Question Number : 63 Question Id : 48558436448 Question Type : MCQ Option Shuffling : No Is Question Mandatory : No Calculator : None Response Time : N.A Think Time : N.A Minimum Instruction Time : 0

Correct Marks : 5 Wrong Marks : 1

Question Key Details :

Key	Value
Comprehension	MCQ

ক্ষমতাৰ অপৰিহাৰ্যতা অবিহান ব্যৱহাৰ কৰাটো কোন শ্ৰেণীৰ নেতৃত্বই বিশ্বাস নকৰে

1. মুক্ত সংযত নেতৃত্ব
2. গণতান্ত্ৰিক
3. একচ্ছত্ৰী
4. অংশগ্ৰহণকাৰী

Options :

485584145789. 1
485584145790. 2
485584145791. 3
485584145792. 4

Question Number : 64 Question Id : 48558436449 Question Type : MCQ Option Shuffling : No Is Question Mandatory : No Calculator : None Response Time : N.A Think Time : N.A Minimum Instruction Time : 0

Correct Marks : 5 Wrong Marks : 1

Question Key Details :

Key	Value
Comprehension	MCQ

The incentive is offered over and above the wages/salary to the employees is _____.

1. Project Sharing
2. Pay or Allowances
3. Perquisites
4. Bonus

Options :

485584145793. 1
485584145794. 2
485584145795. 3
485584145796. 4

Question Number : 64 Question Id : 48558436449 Question Type : MCQ Option Shuffling : No Is Question Mandatory : No Calculator : None Response Time : N.A Think Time : N.A Minimum Instruction Time : 0

Correct Marks : 5 Wrong Marks : 1

Question Key Details :

Key	Value
Comprehension	MCQ

দৰমহা/মজুৰীৰ ওপৰত মোটামুটি ভাৱে কৰ্মচাৰীক প্ৰদান কৰা উদগপী হল _____

1. প্ৰকল্প অংশ
2. প্ৰদেয় আৰু ভাট্টা
3. দৰমহা ওপৰাৰ্ধ
4. বোনাছ

Options :

485584145793. 1
485584145794. 2
485584145795. 3
485584145796. 4

Question Number : 65 Question Id : 48558436450 Question Type : MCQ Option Shuffling : No Is Question Mandatory : No Calculator : None Response Time : N.A Think Time : N.A Minimum Instruction Time : 0

Correct Marks : 5 Wrong Marks : 1

Question Key Details :

Key	Value
Comprehension	MCQ

Ashok went to a shop to buy a tooth paste. The shopkeeper showed him different varieties of toothpaste available in his shop. Ashok took one of them but had an allergy after using it. He later on checked that the product had crossed its expiry date. Which responsibility has Ashok ignored as a customer?

1. Read labels carefully for information such as net weight, price, expiry date etc.
2. Assert that you get a fair deal
3. Ask for a cash memo
4. Avoid waste, littering and contributing to pollution

Options :

485584145797. 1
485584145798. 2
485584145799. 3
485584145800. 4

Question Number : 65 Question Id : 48558436450 Question Type : MCQ Option Shuffling : No Is Question Mandatory : No Calculator : None Response Time : N.A Think Time : N.A Minimum Instruction Time : 0

Correct Marks : 5 Wrong Marks : 1

Question Key Details :

Key	Value
Comprehension	MCQ

অশোকে দাঁতৰ পেণ্ট কিনিবলৈ এখন দোকানলৈ গৈছিল। দোকানীজনে তেওঁক তেওঁৰ দোকানত উপলব্ধ টুথপেণ্টৰ বিভিন্ন বিভাজন দেখুৱাইছিল। অশোকে তেওঁলোকৰ এটা লৈছিল কিন্তু ইয়াক ব্যৱহাৰ কৰাৰ পিছত এলার্জি হৈছিল। তেওঁ পিছত পৰীক্ষা কৰিছিল যে সামগ্ৰীটোৱে ইয়াৰ ম্যাদ উকলি ঘোৱা তাৰিখ অতিক্ৰম কৰিছে। গ্ৰাহক হিচাপে অশোকে কোনটো দায়িত্ব উপেক্ষা কৰিছে?

1. নেট ওজন, মূল্য, মেয়াদ উকলি ঘোৱাৰ তাৰিখ আদিৰ বাবে লেবেল ভালদৰে পঢ়া
2. আপুনি ন্যায্য চুক্তি পায় বুলি দৃঢ়তাৰে কোৱা
3. নগদ মেমো বিচৰা
4. আৱৰ্জনা, আৱৰ্জনা পেলোৱা আৰু প্ৰদূষণত অৰিহণা যোগোৱা পৰিহাৰ কৰক

Options :

485584145797. 1
485584145798. 2
485584145799. 3
485584145800. 4

Question Number : 66 Question Id : 48558436451 Question Type : MCQ Option Shuffling : No Is Question Mandatory : No Calculator : None Response Time : N.A Think Time : N.A Minimum Instruction Time : 0

Correct Marks : 5 Wrong Marks : 1

Question Key Details :

Key	Value
Comprehension	MCQ

It is mandatory for the manufactures to provide information such as ingredients, date of manufacture, price, directions for use, price etc. The consumer right highlighted here is-

1. Right to safety
2. Right to be informed
3. Right to be heard
4. Right to Consumer Education

Options :

485584145801. 1
485584145802. 2
485584145803. 3
485584145804. 4

Question Number : 66 Question Id : 48558436451 Question Type : MCQ Option Shuffling : No Is Question Mandatory : No Calculator : None Response Time : N.A Think Time : N.A Minimum Instruction Time : 0

Correct Marks : 5 Wrong Marks : 1

Question Key Details :

Key	Value
Comprehension	MCQ

প্ৰস্তুতকাৰী কোম্পানীয়ে উপাদান, প্ৰস্তুতকাৰ তাৰিখ, মূল্য, ব্যৱহাৰ বিধি ইত্যাদি তথ্য যোগান ধৰাটো বাধ্যতামূলক। ইয়াত দৰ্শোৱা গ্ৰাহকৰ অধিকাৰবিধ হৈছে -

1. সুবক্ষাৰ অধিকাৰ
2. তথ্য জনাৰ অধিকাৰ
3. নিজ পক্ষ ৰখাৰ অধিকাৰ
4. গ্ৰাহক শিক্ষাৰ অধিকাৰ

Options :

485584145801. 1
485584145802. 2
485584145803. 3
485584145804. 4

Question Number : 67 Question Id : 48558436452 Question Type : MCQ Option Shuffling : No Is Question Mandatory : No Calculator : None Response Time : N.A Think Time : N.A Minimum Instruction Time : 0

Correct Marks : 5 Wrong Marks : 1

Question Key Details :

Key	Value
Comprehension	MCQ

Net working capital is computed as _____ :

1. Gross current assets
2. Gross current assets - total debt
3. Current assets - External debt
4. Current assets - Current liabilities

Options :

485584145805. 1
485584145806. 2
485584145807. 3
485584145808. 4

Question Number : 67 Question Id : 48558436452 Question Type : MCQ Option Shuffling : No Is Question Mandatory : No Calculator : None Response Time : N.A Think Time : N.A Minimum Instruction Time : 0

Correct Marks : 5 Wrong Marks : 1

Question Key Details :

Key	Value
Comprehension	MCQ

প্রকৃত কার্যকরী মূলধন গণনা করা হয় _____।

1. মুঠ চলিত পরিসম্পত্তি
2. মুঠ চলিত সম্পত্তি - মুঠ ধার
3. চলিত সম্পত্তি - বাহ্যিক ঋণ
4. চলিত সম্পত্তি - চলিত দেনা

Options :

485584145805. 1
485584145806. 2
485584145807. 3
485584145808. 4

Question Number : 68 Question Id : 48558436453 Question Type : MCQ Option Shuffling : No Is Question Mandatory : No Calculator : None Response Time : N.A Think Time : N.A Minimum Instruction Time : 0

Correct Marks : 5 Wrong Marks : 1

Question Key Details :

Key	Value
Comprehension	MCQ

_____ of a company affects both the profitability and the financial risk.

1. Working Capital
2. Capital Structure
3. Fixed Capital
4. Dividend decision

Options :

485584145809. 1
485584145810. 2
485584145811. 3
485584145812. 4

Question Number : 68 Question Id : 48558436453 Question Type : MCQ Option Shuffling : No Is Question Mandatory : No Calculator : None Response Time : N.A Think Time : N.A Minimum Instruction Time : 0

Correct Marks : 5 Wrong Marks : 1

Question Key Details :

Key	Value
Comprehension	MCQ

কোম্পানী এটাৰ লাভালাভ আৰু বৃত্তিয় শংকা উভয়কে প্ৰভাৱান্বিত কৰে

1. কাৰ্য্যকৰী মূলধনে
2. মূলধনৰ গাঠনিয়ে
3. স্থিৰ মূলধনে
4. লভ্যাংশ প্ৰদানৰ সিদ্ধান্তই

Options :

485584145809. 1
485584145810. 2
485584145811. 3
485584145812. 4

Question Number : 69 Question Id : 48558436454 Question Type : MCQ Option Shuffling : No Is Question Mandatory : No Calculator : None Response Time : N.A Think Time : N.A Minimum Instruction Time : 0

Correct Marks : 5 Wrong Marks : 1

Question Key Details :

Key	Value
Comprehension	MCQ

Identify the decision in which a company has to choose where to invest its resources so that it is able to earn the maximum possible return for their investors.

1. Working capital decision
2. Financing decision
3. Dividend decision
4. Investment decision

Options :

485584145813. 1
485584145814. 2
485584145815. 3
485584145816. 4

Question Number : 69 Question Id : 48558436454 Question Type : MCQ Option Shuffling : No Is Question Mandatory : No Calculator : None Response Time : N.A Think Time : N.A Minimum Instruction Time : 0

Correct Marks : 5 Wrong Marks : 1

Question Key Details :

Key	Value
Comprehension	MCQ

এটা কোম্পানীয়ে নিজৰ সম্পদ ক'ত বিনিয়োগ কৰিব সেইটো বাছি ল'ব লাগিব যাতে তেওঁলোকৰ বিনিয়োগকাৰীৰ বাবে সৰ্বাধিক সম্ভৱপৰ লাভ আদায় কৰিব পৰা যায়। এই সিদ্ধান্তটো হ'ল:

1. কাৰ্য্যকৰী মূলধনৰ সিদ্ধান্ত
2. বিত্তীয় সিদ্ধান্ত
3. লাভাংশ প্ৰদানৰ সিদ্ধান্ত
4. বিনিয়োগৰ সিদ্ধান্ত

Options :

485584145813. 1
485584145814. 2
485584145815. 3
485584145816. 4

Question Number : 70 Question Id : 48558436455 Question Type : MCQ Option Shuffling : No Is Question Mandatory : No Calculator : None Response Time : N.A Think Time : N.A Minimum Instruction Time : 0

Correct Marks : 5 Wrong Marks : 1

Question Key Details :

Key	Value
Comprehension	MCQ

Select the term that indicates Principles of Management are not rigid prescriptions.

1. Human behaviour
2. Mainly behaviour
3. Contingent
4. Flexible

Options :

485584145817. 1
485584145818. 2
485584145819. 3
485584145820. 4

Question Number : 70 Question Id : 48558436455 Question Type : MCQ Option Shuffling : No Is Question Mandatory : No Calculator : None Response Time : N.A Think Time : N.A Minimum Instruction Time : 0

Correct Marks : 5 Wrong Marks : 1

Question Key Details :

Key	Value
Comprehension	MCQ

ব্যৱস্থাপনাৰ নীতিসমূহ কঠিন প্ৰেছক্ৰিপচন নহয় বুলি বুজাব পৰা শব্দটো বাছক।

1. মানৱীয় আচৰণ
2. মূলতঃ আচৰণ
3. আকস্মিকতা
4. নমনীয়

Options :

485584145817. 1
485584145818. 2
485584145819. 3
485584145820. 4

Question Number : 71 Question Id : 48558436456 Question Type : MCQ Option Shuffling : No Is Question Mandatory : No Calculator : None Response Time : N.A Think Time : N.A Minimum Instruction Time : 0

Correct Marks : 5 Wrong Marks : 1

Question Key Details :

Key	Value
Comprehension	MCQ

" People and materials must be in suitable places at appropriate time for maximum efficiency."

Application of this principle will lead to:

1. Hindrance in the activities of business/factory
2. Increased productivity and efficiency
3. No discrimination against anyone
4. Justice and kindness in the behaviour of managers.

Options :

485584145821. 1
485584145822. 2
485584145823. 3
485584145824. 4

Question Number : 71 Question Id : 48558436456 Question Type : MCQ Option Shuffling : No Is Question Mandatory : No Calculator : None Response Time : N.A Think Time : N.A Minimum Instruction Time : 0

Correct Marks : 5 Wrong Marks : 1

Question Key Details :

Key	Value
Comprehension	MCQ

"সর্বোচ্চ কাৰ্যক্ষমতাৰ বাবে মানুহ আৰু সামগ্ৰী উপযুক্ত সময়ত উপযুক্ত ঠাইত থাকিব লাগিব।"

এই নীতি প্ৰয়োগ কৰিলে কি ঘটিব:

1. ব্যৱসায়/কাৰখানাৰ কাম-কাজত বাধা
2. উৎপাদনশীলতা আৰু কাৰ্যক্ষমতা বৃদ্ধি
3. কাৰো বিৰুদ্ধে কোনো ধৰণৰ বৈষম্য নহয়
4. পৰিচালকৰ আচৰণত ন্যায় আৰু দয়ালুতা।

Options :

485584145821. 1
485584145822. 2
485584145823. 3
485584145824. 4

Question Number : 72 Question Id : 48558436457 Question Type : MCQ Option Shuffling : No Is Question Mandatory : No Calculator : None Response Time : N.A Think Time : N.A Minimum Instruction Time : 0

Correct Marks : 5 Wrong Marks : 1

Question Key Details :

Key	Value
Comprehension	MCQ

In the principle of Scalar Chain, the shortest route for communication in case of emergency is called:

1. Gang Plank
2. Special route
3. Formal route
4. Protocol

Options :

485584145825. 1
485584145826. 2
485584145827. 3
485584145828. 4

Question Number : 72 Question Id : 48558436457 Question Type : MCQ Option Shuffling : No Is Question Mandatory : No Calculator : None Response Time : N.A Think Time : N.A Minimum Instruction Time : 0

Correct Marks : 5 Wrong Marks : 1

Question Key Details :

Key	Value
Comprehension	MCQ

স্কেনাৰ চেইনৰ নীতিত জৰুৰীকালীন অৱস্থাত যোগাযোগৰ বাবে আটাইতকৈ চুটি পথটোক কোৱা হয়:

1. গেং প্লেংক
2. বিশেষ পথ
3. আনুষ্ঠানিক পথ
4. প্ৰটিকল

Options :

485584145825. 1
485584145826. 2
485584145827. 3
485584145828. 4

Question Number : 73 Question Id : 48558436458 Question Type : MCQ Option Shuffling : No Is Question Mandatory : No Calculator : None Response Time : N.A Think Time : N.A Minimum Instruction Time : 0

Correct Marks : 5 Wrong Marks : 1

Question Key Details :

Key	Value
Comprehension	MCQ

If any party is not satisfied by the order of District Commission, then appeal against such order can be made to state commission within a period of _____ days from the date of order.

1. Forty five
2. Thirty
3. Sixty
4. Forty

Options :

485584145829. 1
485584145830. 2
485584145831. 3
485584145832. 4

Question Number : 73 Question Id : 48558436458 Question Type : MCQ Option Shuffling : No Is Question Mandatory : No Calculator : None Response Time : N.A Think Time : N.A Minimum Instruction Time : 0

Correct Marks : 5 Wrong Marks : 1

Question Key Details :

Key	Value
Comprehension	MCQ

কোনো এটা দলে জিনা আয়োগে জৰী কৰা আদেশ এটাৰ বিপৰীতে ৰাজ্যিক আয়োগত _____ দিনৰ ভিতৰত আপীল কৰিব পাৰিব।

1. 45 দিন
2. 30 দিন
3. 60 দিন
4. 40 দিন

Options :

485584145829. 1
485584145830. 2
485584145831. 3
485584145832. 4

Question Number : 74 Question Id : 48558436459 Question Type : MCQ Option Shuffling : No Is Question Mandatory : No Calculator : None Response Time : N.A Think Time : N.A Minimum Instruction Time : 0

Correct Marks : 5 Wrong Marks : 1

Question Key Details :

Key	Value
Comprehension	MCQ

Functions of Entrepreneurship in relation to economic Development do not include :-

1. Contribution to GDP
2. Capital Formation
3. Generation of Employment
4. Generation of Business opportunities only for same business

Options :

485584145833. 1
485584145834. 2
485584145835. 3
485584145836. 4

Question Number : 74 Question Id : 48558436459 Question Type : MCQ Option Shuffling : No Is Question Mandatory : No Calculator : None Response Time : N.A Think Time : N.A Minimum Instruction Time : 0

Correct Marks : 5 Wrong Marks : 1

Question Key Details :

Key	Value
Comprehension	MCQ

অৰ্থনৈতিক উন্নয়নৰ লগত সংগতি ৰাখি উদ্যোগী এজেন কাৰ্য্যাবলী অন্তৰ্গত নহয়

1. মুঠ ঘৰুৱা উৎপাদন লৈ বৰঙনী
2. মূলধন গঠন
3. নিয়োগ সৃষ্টি
4. একে ব্যৱসায়ৰ প্ৰতি ব্যৱসায়িক সুযোগ সৃষ্টি

Options :

485584145833. 1
485584145834. 2
485584145835. 3
485584145836. 4

Question Number : 75 Question Id : 48558436460 Question Type : MCQ Option Shuffling : No Is Question Mandatory : No Calculator : None Response Time : N.A Think Time : N.A Minimum Instruction Time : 0

Correct Marks : 5 Wrong Marks : 1

Question Key Details :

Key	Value
Comprehension	MCQ

The person who combines all factors of production, who takes risk to earn profit is called entrepreneur.

Entrepreneur is _____.

1. Subject
2. Verb
3. Outcome
4. Process

Options :

485584145837. 1
485584145838. 2
485584145839. 3
485584145840. 4

Question Number : 75 Question Id : 48558436460 Question Type : MCQ Option Shuffling : No Is Question Mandatory : No Calculator : None Response Time : N.A Think Time : N.A Minimum Instruction Time : 0

Correct Marks : 5 Wrong Marks : 1

Question Key Details :

Key	Value
Comprehension	MCQ

এক ব্যক্তি যিয়ে ব্যৱসায়ৰ উৎপাদনৰ কাৰক সমূহ খুপ খুৱাই, যিয়ে লাভ অৰ্জন কৰিবলৈ শংকা বহন কৰে তেওঁক উদ্যোগী বুলি কোৱা হয় ।
উদ্যোগী হ'ল _____।

1. বিষয়বস্তু
2. ক্ৰিয়া
3. ফলাফল
4. প্ৰক্ৰিয়া

Options :

485584145837. 1
485584145838. 2
485584145839. 3
485584145840. 4

Question Number : 76 Question Id : 48558436461 Question Type : MCQ Option Shuffling : No Is Question Mandatory : No Calculator : None Response Time : N.A Think Time : N.A Minimum Instruction Time : 0

Correct Marks : 5 Wrong Marks : 1

Question Key Details :

Key	Value
Comprehension	MCQ

Zicon Ltd. has recently set a target of becoming market leader in sale of smart TV. Arrange the steps in the process of planning which will follow after setting of targets :

- A. Identifying alternative courses of action
- B. Implementing the plan
- C. Evaluating alternative courses
- D. Selecting an alternative
- E. Developing premises

Choose the correct answer from the options given below :

1. E, A, C, D, B
2. E, C, D, B, A
3. B, C, E, A, D
4. E, A, B, D, C

Options :

485584145841. 1
485584145842. 2
485584145843. 3
485584145844. 4

Question Number : 76 Question Id : 48558436461 Question Type : MCQ Option Shuffling : No Is Question Mandatory : No Calculator : None Response Time : N.A Think Time : N.A Minimum Instruction Time : 0

Correct Marks : 5 Wrong Marks : 1

Question Key Details :

Key	Value
Comprehension	MCQ

জিকন লিমিটেড ষ্টাৰ্ট টেলিভিছন বিক্ৰয়ৰ জৰিয়তে বজাৰৰ নেতৃত্ব লবলৈ শেহতীয়াভাৱে লক্ষ্য স্থিৰ কৰিছে।
লক্ষ্য স্থিৰ কৰাৰ পিছত পালন কৰিব লগীয়া পৰিকল্পনা প্ৰক্ৰিয়াৰ স্তৰ সমূহ সজোৱা :

- A. বিকল্প কৰ্মৰাজি চিহ্নিত কৰা
- B. আচনিৰ কাৰ্য্যকৰীকৰণ
- C. বিকল্প কৰ্মৰাজিৰ মূল্যায়ণ
- D. বিকল্পৰ বাছনি
- E. চৌহদ উন্নয়ন

নিম্ন উল্লেখিত বিকল্প সমূহৰ পৰা শুদ্ধ উত্তৰটো বাছি উলিওৱা :

- 1. E, A, C, D, B
- 2. E, C, D, B, A
- 3. B, C, E, A, D
- 4. E, A, B, D, C

Options :

- 485584145841. 1
- 485584145842. 2
- 485584145843. 3
- 485584145844. 4

Question Number : 77 Question Id : 48558436462 Question Type : MCQ Option Shuffling : No Is Question Mandatory :
No Calculator : None Response Time : N.A Think Time : N.A Minimum Instruction Time : 0

Correct Marks : 5 Wrong Marks : 1

Question Key Details :

Key	Value
Comprehension	MCQ

Arrange the correct sequence of steps in Organizing process.

- A. Identification and division of work
- B. Establishing authority and reporting relationships
- C. Assignment of Duties
- D. Departmentalization

Choose the correct answer from the options given below :

- 1. B, C, A, D
- 2. D, A, B, C
- 3. C, B, D, A
- 4. A, D, C, B

Options :

- 485584145845. 1
- 485584145846. 2
- 485584145847. 3
- 485584145848. 4

Question Number : 77 Question Id : 48558436462 Question Type : MCQ Option Shuffling : No Is Question Mandatory : No Calculator : None Response Time : N.A Think Time : N.A Minimum Instruction Time : 0

Correct Marks : 5 Wrong Marks : 1

Question Key Details :

Key	Value
Comprehension	MCQ

সংগঠন প্ৰক্ৰিয়াৰ স্তৰ শুদ্ধ অনুক্ৰমত সজোৱা

- A. শ্ৰম বিভাজনৰ চিহ্নিতকৰণ
- B. কতৃত্ব আৰু কাৰ্যা-বিৱৰণী প্ৰতিবেদনৰ সম্বন্ধৰ প্ৰতিস্থাপন
- C. কাৰ্যাৰ মনোনীত কৰণ
- D. বিভাগীয়কৰণ

তলত দিয়া বিকল্পসমূহৰ পৰা শুদ্ধ উত্তৰটো বাছি উলিওৱা :

- 1. B, C, A, D
- 2. D, A, B, C
- 3. C, B, D, A
- 4. A, D, C, B

Options :

- 485584145845. 1
- 485584145846. 2
- 485584145847. 3
- 485584145848. 4

Question Number : 78 Question Id : 48558436463 Question Type : MCQ Option Shuffling : No Is Question Mandatory : No Calculator : None Response Time : N.A Think Time : N.A Minimum Instruction Time : 0

Correct Marks : 5 Wrong Marks : 1

Question Key Details :

Key	Value
Comprehension	MCQ

Mr. Prateek, the Production Manager of Zim Ltd. has selected the right workforce for his department. He decides the following steps which he would adopt in the process of staffing. Arrange them in correct sequence

- A. Performance Appraisal
- B. Compensation
- C. Placement and Orientation
- D. Promotion and Career Planning
- E. Training and development

Choose the correct answer from the options given below :

- 1. C, A, E, D, B
- 2. B, C, D, A, E
- 3. D, A, B, E, C
- 4. C, E, A, D, B

Options :

- 485584145849. 1
- 485584145850. 2
- 485584145851. 3
- 485584145852. 4

Question Number : 78 Question Id : 48558436463 Question Type : MCQ Option Shuffling : No Is Question Mandatory : No Calculator : None Response Time : N.A Think Time : N.A Minimum Instruction Time : 0

Correct Marks : 5 Wrong Marks : 1

Question Key Details :

Key	Value
Comprehension	MCQ

জিম লিমিটেডৰ উৎপাদন পৰিচালক শিঃ প্ৰতিক তেওঁৰ বিভাগৰ বাবে সঠিক কৰ্মশক্তি বাছনি কৰিছিল। তেওঁ পদবী প্ৰক্ৰিয়াৰ ক্ষেত্ৰত নিম্ন উল্লেখীত ধৰণে সিদ্ধান্ত গ্ৰহণ কৰিছিল। ইয়াক শুদ্ধ অনুক্ৰমত সজোৱা

- A. কৰ্মদক্ষতাৰ নিৰূপণ
- B. ক্ষতিপূৰন
- C. অৱস্থান আৰু নতুনত্বৰ লগত খাপ খুৱা
- D. পদোন্নতি আৰু বৃত্তিগত আচনি
- E. প্ৰশিক্ষণ আৰু উন্নয়ন

নিম্ন উল্লেখীত বিকল্প সমূহৰ পৰা শুদ্ধ উত্তৰটো দিয় :

- 1. C, A, E, D, B
- 2. B, C, D, A, E
- 3. D, A, B, E, C
- 4. C, E, A, D, B

Options :

- 485584145849. 1
- 485584145850. 2
- 485584145851. 3
- 485584145852. 4

Question Number : 79 Question Id : 48558436464 Question Type : MCQ Option Shuffling : No Is Question Mandatory : No Calculator : None Response Time : N.A Think Time : N.A Minimum Instruction Time : 0

Correct Marks : 5 Wrong Marks : 1

Question Key Details :

Key	Value
Comprehension	MCQ

Arrange the steps of trading procedure of stock exchange in the correct sequence

- A. Delivering the shares
- B. Placing an Order
- C. Opening a Demat Account
- D. Execution of the order
- E. Settlement of transaction

Choose the correct answer from the options given below :

- 1. C, A, B, D, E
- 2. C, B, D, A, E
- 3. B, A, D, C, E
- 4. B, C, A, E, D

Options :

- 485584145853. 1
- 485584145854. 2

485584145855. 3

485584145856. 4

Question Number : 79 Question Id : 48558436464 Question Type : MCQ Option Shuffling : No Is Question Mandatory : No Calculator : None Response Time : N.A Think Time : N.A Minimum Instruction Time : 0

Correct Marks : 5 Wrong Marks : 1

Question Key Details :

Key	Value
Comprehension	MCQ

প্ৰতিভূতি বিনিময়ৰ বেপাৰ প্ৰক্ৰিয়াৰ স্তৰ সমূহ শুদ্ধ অনুক্ৰমত সজোৱা

- A. অংশৰ বিতৰণ
- B. আদেশৰ অৱস্থান
- C. ডিমেট হিচাপ খুলন
- D. লেনদেনৰ নিষ্পত্তিকৰণ
- E. Settlement of transaction (translation needed)

তলত দিয়া বিকল্পসমূহৰ পৰা শুদ্ধ উত্তৰ দিয়া :

- 1. C, A, B, D, E
- 2. C, B, D, A, E
- 3. B, A, D, A, E
- 4. B, C, A, E, D

Options :

485584145853. 1

485584145854. 2

485584145855. 3

485584145856. 4

Question Number : 80 Question Id : 48558436465 Question Type : MCQ Option Shuffling : No Is Question Mandatory : No Calculator : None Response Time : N.A Think Time : N.A Minimum Instruction Time : 0

Correct Marks : 5 Wrong Marks : 1

Question Key Details :

Key	Value
Comprehension	MCQ

Arrange the following in proper sequence.

- A. Critical Point control and management by exception
- B. Performance should be measured in an objective and reliable manner
- C. Standards are set in both Quantitative as well as Qualitative terms
- D. Reveal the deviation between actual and desired results
- E. Taking corrective action

Choose the correct answer from the options given below :

- 1. A, B, C, D, E
- 2. E, D, C, B, A
- 3. C, B, D, A, E
- 4. A, C, B, E, D

Options :

- 485584145857. 1
- 485584145858. 2
- 485584145859. 3
- 485584145860. 4

Question Number : 80 Question Id : 48558436465 Question Type : MCQ Option Shuffling : No Is Question Mandatory : No Calculator : None Response Time : N.A Think Time : N.A Minimum Instruction Time : 0

Correct Marks : 5 Wrong Marks : 1

Question Key Details :

Key	Value
Comprehension	MCQ

তলত দিয়া সমূহ শুদ্ধ অনুক্রমত সজোৱা

- A. জটিল অংশৰ নিয়ন্ত্ৰন আৰু ব্যতিক্রমৰ দ্বাৰা পৰিচালনা
- B. বিশ্বসযোগ্য ধৰনে উদ্দেশ্য সমূহৰ কৰ্মদক্ষতা পৰিমাপন কৰা
- C. গুণগত আৰু পৰিমাণগত সন্দৰ্ভত মান নিৰ্ধাৰন কৰা
- D. প্রকৃত আৰু বাঞ্ছিত ফলাফলৰ মাজৰ বিচলন প্রকাশ কৰা
- E. কাৰ্যৰ শুদ্ধতা

তলত দিয়া বিকল্প সমূহৰ পৰা শুদ্ধ উত্তৰটো দিয়া :

- 1. A, B, C, D, E
- 2. E, D, C, B, A
- 3. C, B, D, A, E
- 4. A, C, B, E, D

Options :

- 485584145857. 1
- 485584145858. 2
- 485584145859. 3

Question Number : 81 Question Id : 48558436466 Question Type : MCQ Option Shuffling : No Is Question Mandatory : No Calculator : None Response Time : N.A Think Time : N.A Minimum Instruction Time : 0

Correct Marks : 5 Wrong Marks : 1

Question Key Details :

Key	Value
Comprehension	MCQ

Identify the correct combinations of Principles of Management.

- A. Division of work and motion study
- B. Equity and scalar chain
- C. Authority and Responsibility and Method Study
- D. Discipline and Order
- E. Initiative and Fatigue Study

Choose the correct answer from the options given below :

- 1. B and D Only
- 2. A and D Only
- 3. B and E Only
- 4. C and E Only

Options :

- 485584145861. 1
- 485584145862. 2
- 485584145863. 3
- 485584145864. 4

Question Number : 81 Question Id : 48558436466 Question Type : MCQ Option Shuffling : No Is Question Mandatory : No Calculator : None Response Time : N.A Think Time : N.A Minimum Instruction Time : 0

Correct Marks : 5 Wrong Marks : 1

Question Key Details :

Key	Value
Comprehension	MCQ

পৰিচালনা নীতিৰ শুদ্ধ সংযোজন চিহ্নিত কৰা

- A. শ্রমৰ বিভাজন আৰু গতিৰ অধ্যয়ন
- B. সমাংশ আৰু ক্লেলাৰ চেইন
- C. কতৃত্ব আৰু দায়িত্ব আৰোপন আৰু পদ্ধতিৰ অধ্যয়ন
- D. নিয়মানুবর্তীতা আৰু আদেশ
- E. প্ৰাৰম্ভণী আৰু অৱসাদ অধ্যয়ন

তলত দিয়া বিকল্পসমূহৰ পৰা শুদ্ধ উত্তৰটো বাছনি কৰা :

- 1. B আৰু D মাত্ৰ
- 2. A আৰু D মাত্ৰ
- 3. B আৰু E মাত্ৰ
- 4. C আৰু E মাত্ৰ

Options :

- 485584145861. 1
- 485584145862. 2
- 485584145863. 3
- 485584145864. 4

Question Number : 82 Question Id : 48558436467 Question Type : MCQ Option Shuffling : No Is Question Mandatory : No Calculator : None Response Time : N.A Think Time : N.A Minimum Instruction Time : 0

Correct Marks : 5 Wrong Marks : 1

Question Key Details :

Key	Value
Comprehension	MCQ

Which of the following are the sources of Recruitment for a newly set organization?

- A. Unskilled workers required for unskilled work provided by labour contractor
- B. Promotion to the higher post
- C. Websites such as www.naukri.com & jobstostreet etc.
- D. Recommendations of employees
- E. Recruitment from educational institutions

Choose the correct answer from the options given below :

- 1. B Only
- 2. A, C and D Only
- 3. A, C & E Only
- 4. E Only

Options :

- 485584145865. 1
- 485584145866. 2

485584145867. 3
485584145868. 4

Question Number : 82 Question Id : 48558436467 Question Type : MCQ Option Shuffling : No Is Question Mandatory : No Calculator : None Response Time : N.A Think Time : N.A Minimum Instruction Time : 0

Correct Marks : 5 Wrong Marks : 1

Question Key Details :

Key	Value
Comprehension	MCQ

নতুনকৈ স্থাপন পৰা সংগঠন এটাৰ বাবে তলত দিয়া সমূহৰ কোনটো মকবলৰ উৎস হয়

- A. শ্ৰমিক ঠিকাদাৰ এজনে প্ৰদান কৰা অ-নিপুন কৰ্মসম্পাদনৰ বাবে অ-নিপুন বনুৱাৰ প্ৰয়োজন
- B. শীৰ্ষ পদবীলৈ পদোন্নতি
- C. ওয়েবচাইট যেনে www.naukri.com আৰু jobstreet etc.
- D. কৰ্মচাৰী সকলৰ অনুমোদন
- E. শিক্ষা প্ৰতিষ্ঠানৰ পৰা মকবল

তলত দিয়া বিকল্প সমূহৰ পৰা শুদ্ধ উত্তৰটো বাছি উলিওৱা :

- 1. B মাত্ৰ
- 2. A, C, D মাত্ৰ
- 3. A, C, D, আৰু E মাত্ৰ
- 4. E মাত্ৰ

Options :

485584145865. 1
485584145866. 2
485584145867. 3
485584145868. 4

Question Number : 83 Question Id : 48558436468 Question Type : MCQ Option Shuffling : No Is Question Mandatory : No Calculator : None Response Time : N.A Think Time : N.A Minimum Instruction Time : 0

Correct Marks : 5 Wrong Marks : 1

Question Key Details :

Key	Value
Comprehension	MCQ

Which of the following statement/statements are not related with elements of Directing.

- A. Every manager in the organization supervise his/her subordinates
- B. It stimulates people to take up work voluntarily
- C. The process of influencing the behavior of people by making them strive voluntarily towards achievements of organizational goals
- D. Effective communication with subordinates
- E. Coordinating different functions of management

Choose the correct answer from the options given below :

- 1. E Only
- 2. A, B and D Only
- 3. D Only
- 4. B and C Only

Options :

- 485584145869. 1
- 485584145870. 2
- 485584145871. 3
- 485584145872. 4

Question Number : 83 Question Id : 48558436468 Question Type : MCQ Option Shuffling : No Is Question Mandatory : No Calculator : None Response Time : N.A Think Time : N.A Minimum Instruction Time : 0

Correct Marks : 5 Wrong Marks : 1

Question Key Details :

Key	Value
Comprehension	MCQ

তলত দিয়া বিবৃতি সমূহৰ কোনটো নিৰ্দেশৰ উপাদানৰ সৈতে সম্বন্ধিত নহয়

- A. এটো সংগঠনৰ প্ৰত্যেকজন পৰিচালকে তেওঁলোকৰ অধীনস্থক নিৰীক্ষণ কৰে
- B. বনুৱা সকলক স্বইচ্ছাই কৰ্মসম্পাদনৰ বাবে উত্তেজিত কৰে
- C. কৰ্মচাৰী সকলৰ আচৰণ প্ৰক্ৰিয়ক প্ৰভাৱপ্ৰসূ কৰি সংগঠনটোক উদ্দেশ্য বা লক্ষ্যত উপনীত কৰোৱাত কঠোৰ পৰিশ্ৰম কৰে
- D. তলতীয়া কৰ্মচাৰীৰ সৈতে ফলপ্ৰসূ যোগাযোগ
- E. পৰিচালনাৰ বিভিন্ন কাৰ্যৰ সমন্বয়

তলত দিয়া বিকল্প সমূহৰ পৰা শুদ্ধ উত্তৰটো বাছনি কৰা :

- 1. E মাত্ৰ
- 2. A, B আৰু D মাত্ৰ
- 3. D মাত্ৰ
- 4. B আৰু C মাত্ৰ

Options :

485584145869. 1
485584145870. 2
485584145871. 3
485584145872. 4

Question Number : 84 Question Id : 48558436469 Question Type : MCQ Option Shuffling : No Is Question Mandatory : No Calculator : None Response Time : N.A Think Time : N.A Minimum Instruction Time : 0

Correct Marks : 5 Wrong Marks : 1

Question Key Details :

Key	Value
Comprehension	MCQ

Which of the following is not related with "Critical point of control" concept?

- A. Control should focus on key result areas
- B. KRA's can never be set as critical points
- C. It is very easy and economical to keep a check on each and every activity of organization
- D. If anything goes wrong at the critical points the entire organization suffers
- E. In manufacturing organization, an increase of 5% in labour cost may be more troublesome than a 15% increase in postal charges

Choose the correct answer from the options given below :

- 1. A Only
- 2. C & B Only
- 3. C Only
- 4. D & E Only

Options :

485584145873. 1
485584145874. 2
485584145875. 3
485584145876. 4

Question Number : 84 Question Id : 48558436469 Question Type : MCQ Option Shuffling : No Is Question Mandatory : No Calculator : None Response Time : N.A Think Time : N.A Minimum Instruction Time : 0

Correct Marks : 5 Wrong Marks : 1

Question Key Details :

Key	Value
Comprehension	MCQ

তলৰ কোনটো "নিয়ন্ত্ৰনৰ জটীলাৰ" ধাৰনাটোৰ সৈতে সম্বন্ধিত নহয়

- A. নিয়ন্ত্ৰনে প্ৰধান ক্ষেত্ৰফলাফল দেখুওৱা উচিত
- B. কে.আৰ.এ কেতিনাও জটিল হিচাপে সংস্থানিত কৰিব নালাগে
- C. সংগঠন এটাৰ প্ৰতিটো কাৰ্য্য মিতব্যয়িতাৰ পৰীক্ষা কৰাটো অতি সহজ
- D. সংগঠন টোৱে কৰা জটিল ক্ষেত্ৰত কৰা বিশ্লেষণ যদি ভুল হয় তেন্তে লোকচান ভৰিব লাগিব
- E. উৎপাদন কাৰী প্ৰতিষ্ঠান এটাত 5% শ্ৰমবায়ৰ বৃদ্ধি 15% ডাক খৰছতকৈ বহু বেছি অসুবিধা জনক হব পাৰে

তলত দিয়া বিকল্পসমূহৰ পৰা শুদ্ধ উত্তৰটো বাছনি কৰা :

- 1. A মাত্ৰ
- 2. C আৰু B মাত্ৰ
- 3. C মাত্ৰ
- 4. D আৰু E মাত্ৰ

Options :

- 485584145873. 1
- 485584145874. 2
- 485584145875. 3
- 485584145876. 4

Question Number : 85 Question Id : 48558436470 Question Type : MCQ Option Shuffling : No Is Question Mandatory : No Calculator : None Response Time : N.A Think Time : N.A Minimum Instruction Time : 0

Correct Marks : 5 Wrong Marks : 1

Question Key Details :

Key	Value
Comprehension	MCQ

What are the aspects of feasibility analysis under Entrepreneurship Development ?

- A. Technical Aspect
- B. Economic Aspect
- C. Financial Aspect
- D. Commercial Aspect
- E. Political Aspect

Choose the correct answer from the options given below :

- 1. A, B and C Only
- 2. A, B, D and E Only
- 3. A and B Only
- 4. A, B, C and D Only

Options :

- 485584145877. 1

485584145878. 2
485584145879. 3
485584145880. 4

**Question Number : 85 Question Id : 48558436470 Question Type : MCQ Option Shuffling : No Is Question Mandatory :
No Calculator : None Response Time : N.A Think Time : N.A Minimum Instruction Time : 0**

Correct Marks : 5 Wrong Marks : 1

Question Key Details :

Key	Value
Comprehension	MCQ

উদ্যমিতাৰ উল্লয়নৰ সন্দৰ্ভত সহজ সাধাৰ বিশ্লেষণ দিলাটো কি ?

- A. কাৰিকৰী দিশ
- B. অৰ্থনৈতিক দিশ
- C. বিত্তীয় দিশ
- D. বানিজ্যিক দিশ
- E. বাজনৈতিক দিশ

তলত দিয়া বিকল্পসমূহৰ পৰা শুদ্ধ উত্তৰটো বাছনি কৰা :

- 1. A, B আৰু C মাত্ৰ
- 2. A, B, D আৰু E মাত্ৰ
- 3. A আৰু B মাত্ৰ
- 4. A, B, C আৰু D মাত্ৰ

Options :

485584145877. 1
485584145878. 2
485584145879. 3
485584145880. 4

**Question Number : 86 Question Id : 48558436471 Question Type : MCQ Option Shuffling : No Is Question Mandatory :
No Calculator : None Response Time : N.A Think Time : N.A Minimum Instruction Time : 0**

Correct Marks : 5 Wrong Marks : 1

Question Key Details :

Key	Value
Comprehension	MCQ

Match List I with List II

LIST I		LIST II	
A.	Economic environment	I.	Legislations Passed
B.	Social environment	II.	Stock market Indices
C.	Technological environment	III.	New Methods and Techniques
D.	Legal environment	IV.	Traditions

Choose the correct answer from the options given below:

1. A-IV, B-III, C-II, D-I
2. A-II, B-IV, C-III, D-I
3. A-II, B-III, C-IV, D-I
4. A-II, B-I, C-III, D-IV

Options :

485584145881. 1
485584145882. 2
485584145883. 3
485584145884. 4

Question Number : 86 Question Id : 48558436471 Question Type : MCQ Option Shuffling : No Is Question Mandatory : No Calculator : None Response Time : N.A Think Time : N.A Minimum Instruction Time : 0

Correct Marks : 5 Wrong Marks : 1

Question Key Details :

Key	Value
Comprehension	MCQ

I নং তালিকাৰ সৈতে II নং তালিকা মিলোৱা

তালিকা I		তালিকা II	
A.	অৰ্থনৈতিক পৰিৱেশ	I.	বিধান অতিভ্ৰম
B.	সামাজিক পৰিৱেশ	II.	প্ৰতিভূতি বজাৰ সৃষ্টি
C.	কাৰিকৰীগত পৰিৱেশ	III.	নতুন কাৰিকৰী পদ্ধতি
D.	আইনগত পৰিৱেশ	IV.	পৰম্পৰা

তলত দিয়া বিকল্প সমূহৰ পৰা শুদ্ধ উত্তৰ বাছনি কৰা:

1. A-IV, B-III, C-II, D-I
2. A-II, B-IV, C-III, D-I
3. A-II, B-III, C-IV, D-I
4. A-II, B-I, C-III, D-IV

Options :

485584145881. 1
485584145882. 2
485584145883. 3

Question Number : 87 Question Id : 48558436472 Question Type : MCQ Option Shuffling : No Is Question Mandatory : No Calculator : None Response Time : N.A Think Time : N.A Minimum Instruction Time : 0

Correct Marks : 5 Wrong Marks : 1

Question Key Details :

Key	Value
Comprehension	MCQ

Match List I with List II

LIST I		LIST II	
A.	Objectives	I.	General Statements
B.	Strategy	II.	Routine steps
C.	Policy	III.	Comprehensive plan
D.	Procedure	IV.	End point of planning

Choose the correct answer from the options given below:

1. A-IV, B-III, C-II, D-I
2. A-IV, B-II, C-III, D-I
3. A-IV, B-I, C-III, D-II
4. A-IV, B-III, C-I, D-II

Options :

485584145885. 1
 485584145886. 2
 485584145887. 3
 485584145888. 4

Question Number : 87 Question Id : 48558436472 Question Type : MCQ Option Shuffling : No Is Question Mandatory : No Calculator : None Response Time : N.A Think Time : N.A Minimum Instruction Time : 0

Correct Marks : 5 Wrong Marks : 1

Question Key Details :

Key	Value
Comprehension	MCQ

তালিকা I এৰ লগত তালিকা II মিলোৱা

তালিকা I		তালিকা II	
A.	উদ্দেশ্য	I.	সাধাৰণ উক্তি
B.	কৌশল	II.	নিয়মিত পদ্ধতি
C.	আচনি	III.	সৰ্বাত্মক আচনি
D.	প্ৰক্ৰিয়া	IV.	পৰিকল্পনাৰ শেষ বিন্দু

তলত দিয়া বিকল্প সমূহৰ পৰা শুদ্ধ উত্তৰটো বাছনি কৰা:

1. A-IV, B-III, C-II, D-I
2. A-IV, B-II, C-III, D-I
3. A-IV, B-I, C-III, D-II
4. A-IV, B-III, C-I, D-II

Options :

485584145885. 1
485584145886. 2
485584145887. 3
485584145888. 4

Question Number : 88 Question Id : 48558436473 Question Type : MCQ Option Shuffling : No Is Question Mandatory : No Calculator : None Response Time : N.A Think Time : N.A Minimum Instruction Time : 0

Correct Marks : 5 Wrong Marks : 1

Question Key Details :

Key	Value
Comprehension	MCQ

Match List I with List II

LIST I (Controlling Process)		LIST II (Related Concept)	
A.	Analysing deviations	I.	It demands managerial attention
B.	Taking corrective action	II.	It becomes easy when quantitative terms are used
C.	Comparison of standard with actuals	III.	To determine acceptable range of deviations
D.	Setting performance standards	IV.	Serves as benchmarks towards which an organization strives to work

Choose the correct answer from the options given below:

1. A-I, B-III, C-II, D-IV
2. A-III, B-I, C-II, D-IV
3. A-III, B-II, C-I, D-IV
4. A-IV, B-III, C-II, D-I

Options :

485584145889. 1
485584145890. 2
485584145891. 3
485584145892. 4

Question Number : 88 Question Id : 48558436473 Question Type : MCQ Option Shuffling : No Is Question Mandatory : No Calculator : None Response Time : N.A Think Time : N.A Minimum Instruction Time : 0

Correct Marks : 5 Wrong Marks : 1

Question Key Details :

Key	Value
Comprehension	MCQ

I নং তালিকাৰ সৈতে II নং তালিকা মিলোৱা

তালিকা I (নিয়ন্ত্ৰণ প্ৰক্ৰিয়া)	তালিকা II (সম্বন্ধিত ধাৰণা)
A. বিশ্লেষণৰ বিচলন	I. পৰিচালনাগত মনোযোগৰ চাহিদা
B. শুদ্ধ কৰন	II. পৰিমাণগত ৰূপ ব্যৱহাৰত সহজে কৰি তুলে
C. প্ৰকৃতৰ সৈতে মানৰ তুলনা	III. বিচলনৰ প্ৰহণযোগ্য পৰিসৰ নিৰ্ধাৰণ
D. কৰ্মদক্ষতাৰ মানৰ স্থিৰকৰন	IV. সংগঠন কৰ্মসম্পাদনত কৰা কঠোৰ পৰিশ্ৰমত মূল পীঠৰ দৰে সেৱা কৰা

নিম্ন উল্লেখীত বিকল্পসমূহৰ পৰা শুদ্ধ উত্তৰটো বাছনি কৰা:

1. A-I, B-III, C-II, D-IV
2. A-III, B-I, C-II, D-IV
3. A-III, B-II, C-I, D-IV
4. A-IV, B-III, C-II, D-I

Options :

485584145889. 1
485584145890. 2
485584145891. 3
485584145892. 4

Question Number : 89 Question Id : 48558436474 Question Type : MCQ Option Shuffling : No Is Question Mandatory : No Calculator : None Response Time : N.A Think Time : N.A Minimum Instruction Time : 0

Correct Marks : 5 Wrong Marks : 1

Question Key Details :

Key	Value
Comprehension	MCQ

Match List I with List II

LIST I		LIST II	
A.	Interest Coverage Ratio	I.	Rate of return
B.	Choice of Technique	II.	Fixed Capital
C.	Credit Allowed	III.	Capital structure
D.	Capital budgeting decisions	IV.	Working Capital

Choose the correct answer from the options given below:

1. A-II, B-III, C-IV, D-I
2. A-III, B-II, C-I, D-IV
3. A-III, B-II, C-IV, D-I
4. A-II, B-IV, C-III, D-I

Options :

485584145893. 1
485584145894. 2
485584145895. 3
485584145896. 4

Question Number : 89 Question Id : 48558436474 Question Type : MCQ Option Shuffling : No Is Question Mandatory : No Calculator : None Response Time : N.A Think Time : N.A Minimum Instruction Time : 0

Correct Marks : 5 Wrong Marks : 1

Question Key Details :

Key	Value
Comprehension	MCQ

I নং তালিকাৰ সৈতে II নং তালিকা মিলোৱা

তালিকা I		তালিকা II	
A.	সূত কভাৰেজ অনুপাত	I.	ৰিটাৰ্ণৰ হাৰ
B.	কৌশলৰ বাছনি	II.	ফিক্সড কেপিটেল
C.	ক্রেডিটৰ অনুমতি দিয়া হৈছে	III.	ক্রেডিটৰ অনুমতি দিয়া হৈছে
D.	মূলধনী বাজেটৰ সিদ্ধান্ত	IV.	মূলধনী বাজেটৰ সিদ্ধান্ত

Choose the correct answer from the options given below:

1. A-II, B-III, C-IV, D-I
2. A-III, B-II, C-I, D-IV
3. A-III, B-II, C-IV, D-I
4. A-II, B-IV, C-III, D-I

Options :

485584145893. 1

485584145894. 2
485584145895. 3
485584145896. 4

Question Number : 90 Question Id : 48558436475 Question Type : MCQ Option Shuffling : No Is Question Mandatory : No Calculator : None Response Time : N.A Think Time : N.A Minimum Instruction Time : 0

Correct Marks : 5 Wrong Marks : 1

Question Key Details :

Key	Value
Comprehension	MCQ

Match List I with List II

LIST I		LIST II	
A.	Shopping Products	I.	Cigarettes, Ice cream, Medicines
B.	Speciality Products	II.	Raw materials, Engines, Lubricants
C.	Industrial Products	III.	Radio, Jewellery, Furniture
D.	Convenience Products	IV.	Salon, Restaurant, Boutique

Choose the correct answer from the options given below:

1. A-I, B-II, C-IV, D-III
2. A-III, B-I, C-II, D-IV
3. A-III, B-IV, C-II, D-I
4. A-IV, B-III, C-II, D-I

Options :

485584145897. 1
485584145898. 2
485584145899. 3
485584145900. 4

Question Number : 90 Question Id : 48558436475 Question Type : MCQ Option Shuffling : No Is Question Mandatory : No Calculator : None Response Time : N.A Think Time : N.A Minimum Instruction Time : 0

Correct Marks : 5 Wrong Marks : 1

Question Key Details :

Key	Value
Comprehension	MCQ

I নং তালিকাৰ সৈতে II নং তালিকা মিলোৱা

তালিকা I		তালিকা II	
A.	পণ্যৰ ত্ৰয়	I.	চিপাৰেট, আইচক্ৰীম, ঔষধ
B.	বিশেষ পণ্য	II.	কেচা সামগ্ৰী, ইঞ্জিন, পিচলকাৰী দ্ৰব্য
C.	উদ্যোগিক পণ্য	III.	ৰোডিঙ, গহনা, আচৰাব
D.	আৰামদায়ক পণ্য	IV.	চেলুন, হোটেল, বুটিক

নিম্ন উল্লেখীত বিকল্প সমূহৰ পৰা শুদ্ধ উত্তৰটো বাছনি কৰা:

1. A-I, B-II, C-IV, D-III

2. A-III, B-I, C-II, D-IV

3. A-III, B-IV, C-II, D-I

4. A-IV, B-III, C-II, D-I

Options :

485584145897. 1

485584145898. 2

485584145899. 3

485584145900. 4

Sub-Section Number :

2

Sub-Section Id :

4855842694

Question Shuffling Allowed :

No

Is Section Default? :

null

Question Number : 91 Question Id : 48558436476 Question Type : MCQ Option Shuffling : No Is Question Mandatory : No Calculator : None Response Time : N.A Think Time : N.A Minimum Instruction Time : 0

Correct Marks : 5 Wrong Marks : 1

Question Key Details :

Key	Value
Comprehension	Comp1

Mr. Rehan has done a diploma in Financial market and its participants. Recently he got a chance to present his knowledge and train students in a school. He told students about various money market instruments. He mentioned about an instrument which is issued by R.B.I on behalf of Central Government. He told students that Banks use a system to borrow money (an instrument) to manage their CRR i.e Cash Reserve Ratio. Later, he mentioned a short term self liquidating instrument like Bills of Exchange that can be used for arranging working capital. He also told students about an instrument that helps to mobilise large amounts of money in short period by commercial banks. Lastly, Mr. Rehan spoke about an instrument that works as a replacement towards bank borrowing for large credit-worthy companies, its maturity period is 15 days to one year.

"He mentioned about an Instrument which is issued by RBI on behalf of Central Government" .

Identify the Money instrument to which the above given line is related to.

1. Call money
2. Commercial Papers
3. Treasury Bills
4. Commercial Bills

Options :

485584145901. 1
485584145902. 2
485584145903. 3
485584145904. 4

Question Number : 91 Question Id : 48558436476 Question Type : MCQ Option Shuffling : No Is Question Mandatory : No Calculator : None Response Time : N.A Think Time : N.A Minimum Instruction Time : 0

Correct Marks : 5 Wrong Marks : 1

Question Key Details :

Key	Value
Comprehension	Comp1

মিঃ বেহান বিত্তীয় বাজাৰ আৰু ইয়াৰ অংশগ্ৰহনত ডিপ্লোমা লৈছে। শেহতীয় ভাৱে এখন কুলৰ ছাত্ৰ-ছাত্ৰীক তেওঁৰ জ্ঞান প্ৰদান কৰিবৰ বাবে সুবিধা পালে। তেওঁ ছাত্ৰ-ছাত্ৰীক মুদ্রা বাজাৰৰ আহিলাৰ ওপৰত কৈছিল। তেওঁ এখন আহিলাৰ বিষয়ে কৈছিল যিখন RBI বিলি কৰে, কেন্দ্ৰীয় চৰকাৰৰ হকে। তেওঁ ছাত্ৰ ছাত্ৰীক বেংকে পইচা ধাৰ কৰাৰ ওপৰত কৈছিল। (এখন আহিলা -CRR সম্বন্ধত) পিছত তেওঁ হুসকালীন আত্মতাৰলাৰ আহিলা হিচাপে বিনিময় বিল যিয়ে কাৰ্য্যকৰী মূলধনৰ বাবে ব্যৱহৃত হয়। তেওঁ আৰু কৈছিল, বাণিজ্যিক বেংক বিলাকে হুসকালীন সময়ত বৃহৎ টকাৰ গতিশীলতাৰ ওপৰত কৈছিল। শেহতীয় ভাৱে মিঃ বেহানে আৰু এখন আহিলা কথা কৈছিল যি বৃহৎ ধাৰ সঞ্চয়ৰ স্থানান্তৰিত কৰা কোম্পানী যাৰ 15 দিনৰ পিছত এবছৰ ম্যাদপূৰ্ণ হব।

কেন্দ্ৰীয় চৰকাৰৰ হকে RBI জাৰি কৰা আহিলাৰ কথা তেওঁ কৈছিল উপৰোক্ত কথাশাৰীৰ লগত সম্বন্ধিত মুদ্রা বাজাৰৰ আহিলা চিহ্নিত কৰা

1. তলবীয় মুদ্রা
2. কোষাগাৰ বিল
3. বাণিজ্যিক নথি
4. বাণিজ্যিক বিল

Options :

485584145901. 1
485584145902. 2
485584145903. 3
485584145904. 4

Question Number : 92 Question Id : 48558436477 Question Type : MCQ Option Shuffling : No Is Question Mandatory : No Calculator : None Response Time : N.A Think Time : N.A Minimum Instruction Time : 0

Correct Marks : 5 Wrong Marks : 1

Question Key Details :

Key	Value
Comprehension	Comp1

Mr. Rehan has done a diploma in Financial market and its participants. Recently he got a chance to present his knowledge and train students in a school. He told students about various money market instruments. He mentioned about an instrument which is issued by R.B.I on behalf of Central Government. He told students that Banks use a system to borrow money (an instrument) to manage their CRR i.e Cash Reserve Ratio. Later, he mentioned a short term self liquidating instrument like Bills of Exchange that can be used for arranging working capital. He also told students about an instrument that helps to mobilise large amounts of money in short period by commercial banks. Lastly, Mr. Rehan spoke about an instrument that works as a replacement towards bank borrowing for large credit-worthy companies, its maturity period is 15 days to one year.

He told that Banks use a system to borrow money (an instrument) to manage their cash Reserve Ratio.

Which security amongst money market Instrument is mentioned here.

1. Call money
2. Commercial papers
3. Treasury bills
4. Commercial Bills

Options :

485584145905. 1
485584145906. 2
485584145907. 3
485584145908. 4

Question Number : 92 Question Id : 48558436477 Question Type : MCQ Option Shuffling : No Is Question Mandatory : No Calculator : None Response Time : N.A Think Time : N.A Minimum Instruction Time : 0

Correct Marks : 5 Wrong Marks : 1

Question Key Details :

Key	Value
Comprehension	Comp1

মিঃ বেহান বিত্তীয় বাজাৰ আৰু ইয়াৰ অংশগ্ৰহনত ডিপ্লোমা লৈছে। শেহতীয় ভাৱে এখন স্কুলৰ ছাত্ৰ-ছাত্ৰীক তেওঁৰ জ্ঞান প্ৰদান কৰিবৰ বাবে সুবিধা পালে। তেওঁ ছাত্ৰ-ছাত্ৰীক মূদ্ৰা বাজাৰৰ আহিলাৰ ওপৰত কৈছিল। তেওঁ এখন আহিলাৰ বিষয়ে কৈছিল যিখন RBI বিলি কৰে, কেন্দ্ৰীয় চৰকাৰৰ হকে। তেওঁ ছাত্ৰ ছাত্ৰীক বেংকে পইচা ধাৰ কৰাৰ ওপৰত কৈছিল। (এখন আহিলা -CRR সম্বন্ধত) পিছত তেওঁ হুসকালীন আত্মতাৰল্যাৰ আহিলা হিচাপে বিনিময় বিল যিয়ে কাৰ্য্যকৰী মূলধনৰ বাবে ব্যৱহৃত হয়। তেওঁ আৰু কৈছিল, বাণিজ্যিক বেংক বিলাকে হুসকালীন সময়ত বৃহৎ টকাৰ গতিশীলতাৰ ওপৰত কৈছিল। শেহতীয় ভাৱে মিঃ বেহানে আৰু এখন আহিলা কথা কৈছিল যি বৃহৎ ধাৰ সঞ্চয়ৰ স্থানান্তৰিত কৰা কোম্পানী যাৰ 15 দিনৰ পিছত এবছৰ ম্যাদপূৰ্ণ হয়।

তেও কৈছিল যে বেংকে _____ ব্যৱহাৰৰ দ্বাৰা CRR পৰিচালনা কৰে মূদ্ৰা বজাৰৰ অন্তৰ্ভুক্ত কি নিৰাপত্তাপত্ৰৰ কথা উল্লেখ কৰা হৈছে।

1. তলবীয় মূদ্ৰা
2. কোষাগাৰ বিল
3. বাণিজ্যিক নথি
4. বাণিজ্যিক বিল

Options :

485584145905. 1
485584145906. 2
485584145907. 3
485584145908. 4

Question Number : 93 Question Id : 48558436478 Question Type : MCQ Option Shuffling : No Is Question Mandatory : No Calculator : None Response Time : N.A Think Time : N.A Minimum Instruction Time : 0

Correct Marks : 5 Wrong Marks : 1

Question Key Details :

Key	Value
Comprehension	Comp1

Mr. Rehan has done a diploma in Financial market and its participants. Recently he got a chance to present his knowledge and train students in a school. He told students about various money market instruments. He mentioned about an instrument which is issued by R.B.I on behalf of Central Government. He told students that Banks use a system to borrow money (an instrument) to manage their CRR i.e Cash Reserve Ratio. Later, he mentioned a short term self liquidating instrument like Bills of Exchange that can be used for arranging working capital. He also told students about an instrument that helps to mobilise large amounts of money in short period by commercial banks. Lastly, Mr. Rehan spoke about an instrument that works as a replacement towards bank borrowing for large credit-worthy companies, its maturity period is 15 days to one year.

"A short term self liquidating like Bills of Exchange than can be used for arranging working capital".

Which Money Market instrument, was Mr. Rehan referring to?

1. Call money
2. Certificate of Deposit
3. Commercial bills
4. Commercial papers

Options :

485584145909. 1
485584145910. 2
485584145911. 3

Question Number : 93 Question Id : 48558436478 Question Type : MCQ Option Shuffling : No Is Question Mandatory : No Calculator : None Response Time : N.A Think Time : N.A Minimum Instruction Time : 0

Correct Marks : 5 Wrong Marks : 1

Question Key Details :

Key	Value
Comprehension	Comp1

মিঃ বেহান বিত্তীয় বাজাৰ আৰু ইয়াৰ অংশগ্ৰহনত ডিপ্লোমা লৈছে। শেহতীয় ভাৱে এখন কুলৰ ছাত্ৰ-ছাত্ৰীক তেওঁৰ জ্ঞান প্ৰদান কৰিবৰ বাবে সুবিধা পালে। তেওঁ ছাত্ৰ-ছাত্ৰীক মুদ্ৰা বজাৰৰ আহিলাৰ ওপৰত কৈছিল। তেওঁ এখন আহিলাৰ বিষয়ে কৈছিল যিখন RBI বিলি কৰে, কেন্দ্ৰীয় চৰকাৰৰ হকে। তেওঁ ছাত্ৰ ছাত্ৰীক বেংকে পইচা ধাৰ কৰাৰ ওপৰত কৈছিল। (এখন আহিল -CRR সম্বন্ধত) পিছত তেওঁ হুসকালীন আত্মতাৰল্যৰ আহিলা হিচাপে বিনিময় বিল যিয়ে কাৰ্য্যকৰী মূলধনৰ বাবে ব্যৱহৃত হয়। তেওঁ আৰু কৈছিল, বাণিজ্যিক বেংক বিলাকে হুসকালীন সময়ত বৃহৎ টকাৰ গতিশীলতাৰ ওপৰত কৈছিল। শেহতীয় ভাৱে মিঃ বেহানে আৰু এখন আহিলা কথা কৈছিল যি বৃহৎ ধাৰ সঞ্চালকৰ স্নানান্তৰিত কৰা কোম্পানী শাৰ 15 দিনৰ পিছত এবছৰ ম্যাদপূৰ্ণ হব।

এখন হুসকালীন স্বতাৰল্য যেনে বিনিময় বিল যাক কাৰ্য্যকৰী মূলধন সজোৱাত ব্যৱহৃত হয়

কি মুদ্ৰা বজাৰৰ আহিলাৰ কথা মিঃবেহানে কৈছিল :

1. তলবীয় মুদ্ৰা
2. প্ৰমাণ পত্ৰৰ জমা
3. বাণিজ্যিক বিল
4. বাণিজ্যিক নথি

Options :

485584145909. 1
485584145910. 2
485584145911. 3
485584145912. 4

Question Number : 94 Question Id : 48558436479 Question Type : MCQ Option Shuffling : No Is Question Mandatory : No Calculator : None Response Time : N.A Think Time : N.A Minimum Instruction Time : 0

Correct Marks : 5 Wrong Marks : 1

Question Key Details :

Key	Value
Comprehension	Comp1

Mr. Rehan has done a diploma in Financial market and its participants. Recently he got a chance to present his knowledge and train students in a school. He told students about various money market instruments. He mentioned about an instrument which is issued by R.B.I on behalf of Central Government. He told students that Banks use a system to borrow money (an instrument) to manage their CRR i.e Cash Reserve Ratio. Later, he mentioned a short term self liquidating instrument like Bills of Exchange that can be used for arranging working capital. He also told students about an instrument that helps to mobilise large amounts of money in short period by commercial banks. Lastly, Mr. Rehan spoke about an instrument that works as a replacement towards bank borrowing for large credit-worthy companies, its maturity period is 15 days to one year.

"An instrument that helps to mobilise large amounts of money in short period by commercial banks".

Identify the money market instrument stated above :

1. Certificate of Deposit
2. Call money
3. Commercial bills
4. Treasury bills

Options :

485584145913. 1
485584145914. 2
485584145915. 3
485584145916. 4

Question Number : 94 Question Id : 48558436479 Question Type : MCQ Option Shuffling : No Is Question Mandatory : No Calculator : None Response Time : N.A Think Time : N.A Minimum Instruction Time : 0

Correct Marks : 5 Wrong Marks : 1

Question Key Details :

Key	Value
Comprehension	Comp1

মিঃ বেহান বিত্তীয় বাজাৰ আৰু ইয়াৰ অংশগ্ৰহনত ডিপ্লোমা লৈছে। শেহতীয় ভাৱে এখন স্কুলৰ ছাত্ৰ-ছাত্ৰীক তেওঁৰ জ্ঞান প্ৰদান কৰিবৰ বাবে সুবিধা পালে। তেওঁ ছাত্ৰ-ছাত্ৰীক মুদ্রা বাজাৰৰ আহিলাৰ ওপৰত কৈছিল। তেওঁ এখন আহিলাৰ বিষয়ে কৈছিল যিখন RBI বিলি কৰে, কেন্দ্ৰীয় চৰকাৰৰ হকে। তেওঁ ছাত্ৰ ছাত্ৰীক বেংকে পইচা ধাৰ কৰাৰ ওপৰত কৈছিল। (এখন আহিলা -CRR সম্বন্ধত) পিছত তেওঁ হুসকাৰী আন্তৰ্ভাৱৰ আহিলা হিচাপে বিনিময় বিল যিয়ে কাৰ্য্যকৰী মূলধনৰ বাবে ব্যৱহৃত হয়। তেওঁ আৰু কৈছিল, বাণিজ্যিক বেংক বিলাকে হুসকাৰী সময়ত বৃহৎ টকাৰ গতিশীলতাৰ ওপৰত কৈছিল। শেহতীয় ভাৱে মিঃ বেহানে আৰু এখন আহিলা কথা কৈছিল যি বৃহৎ ধাৰ সঞ্চয়ৰ স্থানান্তৰিত কৰা কোম্পানী যাৰ 15 দিনৰ পিছত এবছৰ ম্যাদপূৰ্ণ হব।

" এখন আহিলা যি বৃহৎ টকাৰ গতিশীলতা _____ বাণিজ্যিক বেংকৰ দ্বাৰা ".

উপৰলিখিত ব্যাখ্যাৰ পৰা মুদ্রা বজাৰৰ আহিলা চিহ্নিত কৰা :

1. জমাৰ প্ৰমাণ পত্ৰ
2. তলবীয়া মুদ্রা
3. বাণিজ্যিক বিল
4. কোষাগাৰ বিল

Options :

485584145913. 1
485584145914. 2
485584145915. 3
485584145916. 4

Question Number : 95 Question Id : 48558436480 Question Type : MCQ Option Shuffling : No Is Question Mandatory : No Calculator : None Response Time : N.A Think Time : N.A Minimum Instruction Time : 0

Correct Marks : 5 Wrong Marks : 1

Question Key Details :

Key	Value
Comprehension	Comp1

Mr. Rehan has done a diploma in Financial market and its participants. Recently he got a chance to present his knowledge and train students in a school. He told students about various money market instruments. He mentioned about an instrument which is issued by R.B.I on behalf of Central Government. He told students that Banks use a system to borrow money (an instrument) to manage their CRR i.e Cash Reserve Ratio. Later, he mentioned a short term self liquidating instrument like Bills of Exchange that can be used for arranging working capital. He also told students about an instrument that helps to mobilise large amounts of money in short period by commercial banks. Lastly, Mr. Rehan spoke about an instrument that works as a replacement towards bank borrowing for large credit-worthy companies, its maturity period is 15 days to one year.

"An instrument that works as a replacement towards bank borrowing for large Credit-worthy companies, its maturity period is 15 days to one year".

Identify the money market instrument stated in the above lines.

1. Call money
2. Commercial papers
3. Commercial bills
4. Certificate of Deposit

Options :

485584145917. 1
485584145918. 2
485584145919. 3

Question Number : 95 Question Id : 48558436480 Question Type : MCQ Option Shuffling : No Is Question Mandatory : No Calculator : None Response Time : N.A Think Time : N.A Minimum Instruction Time : 0

Correct Marks : 5 Wrong Marks : 1

Question Key Details :

Key	Value
Comprehension	Comp1

মিঃ বেহান বিত্তীয় বাজাৰ আৰু ইয়াৰ অংশগ্ৰহনত ডিপ্লোমা লৈছে। শেহতীয় ভাৱে এখন কুলৰ ছাৱে-ছাত্ৰীক তেওঁৰ জ্ঞান প্ৰদান কৰিবৰ বাবে সুবিধা পালে। তেওঁ ছাৱে-ছাত্ৰীক মুদ্ৰা বজাৰৰ আহিলাৰ ওপৰত কৈছিল। তেওঁ এখন আহিলাৰ বিষয়ে কৈছিল যিখন RBI বিলি কৰে, কেন্দ্ৰীয় চৰকাৰৰ হকে। তেওঁ ছাৱে ছাত্ৰীক বেংকে পইচা ধাৰ কৰাৰ ওপৰত কৈছিল। (এখন আহিল -CRR সম্বন্ধত) পিছত তেওঁ হুসকালাইন আত্মতাৰণৰ আহিলা হিচাপে বিনিময় বিল যিয়ে কাৰ্য্যকৰী মূলধনৰ বাবে ব্যৱহৃত হয়। তেওঁ আৰু কৈছিল, বাণিজ্যিক বেংক বিলাকে হুসকালাইন সময়ত বৃহৎ টকাৰ গতিশীলতাৰ ওপৰত কৈছিল। শেহতীয় ভাৱে মিঃ বেহানে আৰু এখন আহিলা কথা কৈছিল যি বৃহৎ ধাৰ সঞ্চয়ৰ স্নানান্তৰিত কৰা কোম্পানী যাৰ 15 দিনৰ পিছত এবছৰ ম্যাদপূৰ্ণ হব।

" এই আহিলাই বৃহৎ স্বপলভ্য কোম্পানী প্ৰতি বেংকৰ ধাৰৰ বৃপালতৰকৰণৰ কাম কৰে যাৰ ম্যাদ 15 দিন পিছত এবছৰ পূৰ্ণ হব".

উপৰোক্ত উল্লেখীত ব্যাখ্যাৰ সম্পৰ্কত মুদ্ৰা বজাৰৰ আহিলা চিহ্নিত কৰা

1. তলবীয় মুদ্ৰা
2. বাণিজ্যিক নথি
3. বাণিজ্যিক বিল
4. জমাৰ প্ৰমাণপত্ৰ

Options :

485584145917. 1
485584145918. 2
485584145919. 3
485584145920. 4

Sub-Section Number :

3

Sub-Section Id :

4855842695

Question Shuffling Allowed :

No

Is Section Default? :

null

Question Number : 96 Question Id : 48558436481 Question Type : MCQ Option Shuffling : No Is Question Mandatory : No Calculator : None Response Time : N.A Think Time : N.A Minimum Instruction Time : 0

Correct Marks : 5 Wrong Marks : 1

Question Key Details :

Key	Value
Comprehension	Comp2

Safex Ltd is a company manufacturing masks. The newly appointed marketing manager of the firm has taken 'Covid Pandemic' as an opportunity to increase sales. He used a combination of tools to achieve its communication objective. He constituted 4 teams for designing these tools.

Team 1 :- The tool used by them was an impersonal form of communication which was paid for.

Team 2:- The tool used by them involves oral presentation of message in the form of conversation with one or more prospective customers for the purpose of making sales

Team 3:- This team used short-term incentives which were designed to encourage the buyers to make immediate purchase.

Team 4:- This team used a non-personal form of communication which was non-paid.

All the teams successfully designed their tools and achieved their desired results.

The variable of marketing mix discussed in the above case is _____

1. Product mix
2. Place mix
3. Price mix
4. Promotion mix

Options :

485584145921. 1
485584145922. 2
485584145923. 3
485584145924. 4

Question Number : 96 Question Id : 48558436481 Question Type : MCQ Option Shuffling : No Is Question Mandatory : No Calculator : None Response Time : N.A Think Time : N.A Minimum Instruction Time : 0

Correct Marks : 5 Wrong Marks : 1

Question Key Details :

Key	Value
Comprehension	Comp2

চাফেক্স লিমিটেড মাস্ক উৎপাদনকাৰী এটা কোম্পানী। নতুন কৈ নিযুক্ত বজাৰ পৰিচালক জলে কস্তিদ মহামাৰী বিক্ৰী কৰনৰ সুযোগ হিচাপে গ্ৰহন কৰিছিল। তেওঁ যোগাযোগৰ উদ্দেশ্যত উপনীত হোৱাৰ বাবে সংযোজনৰ আহিল গ্ৰহন কৰিছিল। তেওঁ চাৰিখৰণে লক্ষ্যৰ আহিলা প্ৰস্তুত কৰিছিল।

- 1 নং টিম : তেওলোকে ব্যৱহাৰ কৰা আহি যোগাযোগৰ অ-ব্যক্তিগত বৃত্তৰ অছিল যাত পৰিশোধ কৰা হৈছিল
- 2 নং টিম : তেওলোকে ব্যৱহাৰ কৰা আহি অন্তৰ্গত অছিল আলোচনাৰ মৌখিক প্ৰতিনিধিত্বকৰনৰ বাৰ্তা, বিক্ৰী বৃদ্ধিত কৰনৰ বাবে একাধিক গ্ৰাহকৰ মাজত
- 3 নং টিম : ত্ৰাণ্ণনিক ক্ৰয়ৰ বাবে বিক্ৰেতা সকলক উদগলী জনাবলৈ এনে আহি প্ৰস্তুত কৰা হৈছিল
- 4 নং টিম : এই দলটো ব্যৱহৃত হৈছিল যোগাযোগৰ অ-ব্যক্তিগত বৃত্ত যি পৰিশোধ কৰা হোৱা নাছিল

উপৰুক্ত ক্ষেত্ৰত আলোচনা কৰা বজাৰ মিশ্ৰণৰ চলক হল

1. উৎপাদনৰ মিশ্ৰণ
2. স্থানৰ মিশ্ৰণ
3. দৰৰ মিশ্ৰণ
4. পদোন্নতিৰ মিশ্ৰণ

Options :

485584145921. 1
485584145922. 2
485584145923. 3
485584145924. 4

Question Number : 97 Question Id : 48558436482 Question Type : MCQ Option Shuffling : No Is Question Mandatory : No Calculator : None Response Time : N.A Think Time : N.A Minimum Instruction Time : 0

Correct Marks : 5 Wrong Marks : 1

Question Key Details :

Key	Value
Comprehension	Comp2

Safex Ltd is a company manufacturing masks. The newly appointed marketing manager of the firm has taken 'Covid Pandemic' as an opportunity to increase sales. He used a combination of tools to achieve its communication objective. He constituted 4 teams for designing these tools.

Team 1 :- The tool used by them was an impersonal form of communication which was paid for.

Team 2:- The tool used by them involves oral presentation of message in the form of conversation with one or more prospective customers for the purpose of making sales

Team 3:- This team used short-term incentives which were designed to encourage the buyers to make immediate purchase.

Team 4:- This team used a non-personal form of communication which was non-paid.

All the teams successfully designed their tools and achieved their desired results.

The tool used by Team 3 was _____

1. Public relations
2. Sales promotion
3. Publicity
4. Branding

Options :

485584145925. 1

485584145926. 2
485584145927. 3
485584145928. 4

Question Number : 97 Question Id : 48558436482 Question Type : MCQ Option Shuffling : No Is Question Mandatory : No Calculator : None Response Time : N.A Think Time : N.A Minimum Instruction Time : 0

Correct Marks : 5 Wrong Marks : 1

Question Key Details :

Key	Value
Comprehension	Comp2

চাফেৰল লিমিটেড ম্যাক্স উৎপাদনকাৰী এটা কোম্পানী । নতুন কৈ নিযুক্ত বজাৰ পৰিচালক জনে কতিদ মহামাৰী বিক্ৰী কৰনৰ সুযোগ হিচাপে গ্ৰহন কৰিছিল । তেওঁ যোগাযোগৰ উদ্দেশ্যত উপনীত হোৱাৰ বাবে সংযোজনৰ আহিল গ্ৰহন কৰিছিল। তেওঁ চাৰিখৰণে লক্ষ্যৰ আহিলা প্ৰস্তুত কৰিছিল।

- 1 নং টিম : তেওলোকে ব্যৱহাৰ কৰা আৰ্হি যোগাযোগৰ অ-ব্যক্তিগত বৃপৰ অছিল মাত পৰিশোধ কৰা হৈছিল
- 2 নং টিম : তেওলোকে ব্যৱহাৰ কৰা আৰ্হি অঙ্গগত আছিল আলোচনাৰ মৌখিক প্ৰতিনিধিত্বকৰনৰ বাৰ্তা, বিক্ৰী বৃদ্ধিত কৰনৰ বাবে একাধিক গ্ৰাহকৰ মাজত
- 3 নং টিম : ত্ৰাংক্ষনিক ক্ৰয়ৰ বাবে বিক্ৰেতা সকলক উদগনী জনাবলৈ এনে আৰ্হি প্ৰস্তুত কৰা হৈছিল
- 4 নং টিম : এই দলটো ব্যবহৃত হৈছিল যোগাযোগৰ অ-ব্যক্তিগত বৃপত যি পৰিশোধ কৰা হোৱা নাছিল

তিনি নম্বৰ টিম টোৱে ব্যবহাৰ কৰা আৰ্হি হল

1. জনসম্পর্ক
2. বিক্রয় বৃদ্ধিকৰন
3. প্ৰচাৰ
4. ব্ৰেন্ডিং

Options :

485584145925. 1
485584145926. 2
485584145927. 3
485584145928. 4

Question Number : 98 Question Id : 48558436483 Question Type : MCQ Option Shuffling : No Is Question Mandatory : No Calculator : None Response Time : N.A Think Time : N.A Minimum Instruction Time : 0

Correct Marks : 5 Wrong Marks : 1

Question Key Details :

Key	Value
Comprehension	Comp2

Safex Ltd is a company manufacturing masks. The newly appointed marketing manager of the firm has taken 'Covid Pandemic' as an opportunity to increase sales. He used a combination of tools to achieve its communication objective. He constituted 4 teams for designing these tools.

Team 1 :- The tool used by them was an impersonal form of communication which was paid for.

Team 2:- The tool used by them involves oral presentation of message in the form of conversation with one or more prospective customers for the purpose of making sales

Team 3:- This team used short-term incentives which were designed to encourage the buyers to make immediate purchase.

Team 4:- This team used a non-personal form of communication which was non-paid.

All the teams successfully designed their tools and achieved their desired results.

The tool used by Team 4 is _____

1. Packaging
2. Advertising
3. Publicity
4. Sales promotion

Options :

485584145929. 1
485584145930. 2
485584145931. 3
485584145932. 4

Question Number : 98 Question Id : 48558436483 Question Type : MCQ Option Shuffling : No Is Question Mandatory : No Calculator : None Response Time : N.A Think Time : N.A Minimum Instruction Time : 0

Correct Marks : 5 Wrong Marks : 1

Question Key Details :

Key	Value
Comprehension	Comp2

চাফেক্স লিমিটেড মাস্ক উৎপাদনকাৰী এটা কোম্পানী । নতুন কৈ নিযুক্ত বজাৰ পৰিচালক জনে কতিদ মহামাৰী বিক্ৰী কৰনৰ সুযোগ হিচাপে গ্ৰহণ কৰিছিল । তেওঁ যোগাযোগৰ উদ্দেশ্যত উপনীত হোৱাৰ বাবে সংবোধনৰ আহিল গ্ৰহণ কৰিছিল। তেওঁ চাৰিখৰণে লক্ষ্যৰ আহিলা প্ৰস্তুত কৰিছিল।

- 1 নং টিম : তেওলোকে ব্যৱহাৰ কৰা আৰ্হি যোগাযোগৰ অ-ব্যক্তিগত বৃণৰ অছিল যাত পৰিশোধ কৰা হৈছিল
- 2 নং টিম : তেওলোকে ব্যৱহাৰ কৰা আৰ্হি অন্তৰ্গত আছিল আলোচনাৰ মৌখিক প্ৰতিনিধিত্বকৰনৰ বাতা, বিক্ৰী বৃদ্ধিত কৰনৰ বাবে একাধিক গ্ৰাহকৰ মাজত
- 3 নং টিম : ত্ৰাণক্ষলিক ক্ৰয়ৰ বাবে বিক্ৰেতা সকলক উদগলী জনাবলৈ এনে আৰ্হি প্ৰস্তুত কৰা হৈছিল
- 4 নং টিম : এই দলটো ব্যৱহৃত হৈছিল যোগাযোগৰ অ-ব্যক্তিগত বৃণত যি পৰিশোধ কৰা হোৱা নাছিল

টিমটোৱে ব্যৱহাৰ কৰা আহিল হ'ল _____

1. টোপলাকৰন
2. বিজ্ঞাপন
3. প্ৰচাৰ
4. বিক্ৰীবৃদ্ধিকৰন

Options :

485584145929. 1
485584145930. 2
485584145931. 3
485584145932. 4

Question Number : 99 Question Id : 48558436484 Question Type : MCQ Option Shuffling : No Is Question Mandatory : No Calculator : None Response Time : N.A Think Time : N.A Minimum Instruction Time : 0

Correct Marks : 5 Wrong Marks : 1

Question Key Details :

Key	Value
Comprehension	Comp2

Safex Ltd is a company manufacturing masks. The newly appointed marketing manager of the firm has taken 'Covid Pandemic' as an opportunity to increase sales. He used a combination of tools to achieve its communication objective. He constituted 4 teams for designing these tools.

Team 1 :- The tool used by them was an impersonal form of communication which was paid for.

Team 2:- The tool used by them involves oral presentation of message in the form of conversation with one or more prospective customers for the purpose of making sales

Team 3:- This team used short-term incentives which were designed to encourage the buyers to make immediate purchase.

Team 4:- This team used a non-personal form of communication which was non-paid.

All the teams successfully designed their tools and achieved their desired results.

The tool used by Team 1 is _____

1. Advertising
2. Public relations
3. Publicity
4. Personal selling

Options :

485584145933. 1

485584145934. 2

485584145935. 3

485584145936. 4

Question Number : 99 Question Id : 48558436484 Question Type : MCQ Option Shuffling : No Is Question Mandatory : No Calculator : None Response Time : N.A Think Time : N.A Minimum Instruction Time : 0

Correct Marks : 5 Wrong Marks : 1

Question Key Details :

Key	Value
Comprehension	Comp2

চাফেব্ল লিমিটেড ম্যাক্স উৎপাদনকাৰী এটা কোম্পানী । নতুন কৈ নিযুক্ত বজাৰ পৰিচালক জনে কতিদ মহামাৰী বিক্ৰী কৰনৰ সুযোগ হিচাপে গ্ৰহন কৰিছিল । তেওঁ যোগাযোগৰ উদ্দেশ্যত উপনীত হোৱাৰ বাবে সংযোজনৰ আহিল গ্ৰহন কৰিছিল। তেওঁ চাৰিখৰণে লক্ষ্যৰ আহিলা প্ৰস্তুত কৰিছিল।

- 1 নং টিম : তেওলোকে ব্যৱহাৰ কৰা আৰ্হি যোগাযোগৰ অ-ব্যক্তিগত বৃপৰ অছিল মাত পৰিশোধ কৰা হৈছিল
- 2 নং টিম : তেওলোকে ব্যৱহাৰ কৰা আৰ্হি অল্পগত আছিল আলোচনাৰ মৌখিক প্ৰতিনিধিত্বকৰনৰ বাৰ্তা, বিক্ৰী বৃদ্ধিত কৰনৰ বাবে একাধিক গ্ৰাহকৰ মাজত
- 3 নং টিম : ভাণ্ডাৰিক ক্ৰয়ৰ বাবে বিক্ৰেতা সকলক উদগনী জনাবলৈ এনে আৰ্হি প্ৰস্তুত কৰা হৈছিল
- 4 নং টিম : এই দলটো ব্যবহৃত হৈছিল যোগাযোগৰ অ-ব্যক্তিগত বৃপত যি পৰিশোধ কৰা হোৱা নাছিল

1 নং টিমটোৱে ব্যবহাৰ কৰা আহিলা হল _____

1. বিজ্ঞাপন
2. জনসম্পর্ক
3. প্ৰচাৰ
4. ব্যক্তিগত বিক্ৰী

Options :

485584145933. 1

485584145934. 2

485584145935. 3

485584145936. 4

Question Number : 100 Question Id : 48558436485 Question Type : MCQ Option Shuffling : No Is Question Mandatory : No Calculator : None Response Time : N.A Think Time : N.A Minimum Instruction Time : 0

Correct Marks : 5 Wrong Marks : 1

Question Key Details :

Key	Value
Comprehension	Comp2

Safex Ltd is a company manufacturing masks. The newly appointed marketing manager of the firm has taken 'Covid Pandemic' as an opportunity to increase sales. He used a combination of tools to achieve its communication objective. He constituted 4 teams for designing these tools.

Team 1 :- The tool used by them was an impersonal form of communication which was paid for.

Team 2:- The tool used by them involves oral presentation of message in the form of conversation with one or more prospective customers for the purpose of making sales

Team 3:- This team used short-term incentives which were designed to encourage the buyers to make immediate purchase.

Team 4:- This team used a non-personal form of communication which was non-paid.

All the teams successfully designed their tools and achieved their desired results.

The tool used by Team 2 is _____

1. Public relations
2. Personal selling
3. Advertising
4. Publicity

Options :

485584145937. 1
485584145938. 2
485584145939. 3
485584145940. 4

Question Number : 100 Question Id : 48558436485 Question Type : MCQ Option Shuffling : No Is Question Mandatory : No Calculator : None Response Time : N.A Think Time : N.A Minimum Instruction Time : 0

Correct Marks : 5 Wrong Marks : 1

Question Key Details :

Key	Value
Comprehension	Comp2

চাফেক্স লিমিটেড মাস্ক উৎপাদনকাৰী এটা কোম্পানী । নতুন কৈ নিযুক্ত বজাৰ পৰিচালক জনে কতিদ মহামাৰী বিক্ৰী কৰনৰ সুযোগ হিচাপে গ্ৰহণ কৰিছিল । তেওঁ যোগাযোগৰ উদ্দেশ্যত উপনীত হোৱাৰ বাবে সংবোধনৰ আহিল গ্ৰহণ কৰিছিল। তেওঁ চাৰিখৰণে লক্ষ্যৰ আহিলা প্ৰস্তুত কৰিছিল।

- 1 নং টিম : তেওলোকে ব্যৱহাৰ কৰা আহি যোগাযোগৰ অ-ব্যক্তিগত বৃদ্ধিৰ জৰিয়তে পৰিশোধ কৰা হৈছিল
- 2 নং টিম : তেওলোকে ব্যৱহাৰ কৰা আহি অন্তৰ্গত আছিল আলোচনাৰ মৌখিক প্ৰতিনিধিত্বকৰনৰ বাতা, বিক্ৰী বৃদ্ধিত কৰনৰ বাবে একাধিক গ্ৰাহকৰ মাজত
- 3 নং টিম : ত্ৰাণ্ক্ষলিক ক্ৰয়ৰ বাবে বিক্ৰেতা সকলক উদগলী জনাবলৈ এনে আহি প্ৰস্তুত কৰা হৈছিল
- 4 নং টিম : এই দলটো ব্যৱহৃত হৈছিল যোগাযোগৰ অ-ব্যক্তিগত বৃদ্ধিৰ বাবে পৰিশোধ কৰা হোৱা নাছিল

2 নং টিমটোৱে ব্যৱহাৰ কৰা আহিলা হৈছে _____

1. জন সম্পৰ্ক
2. ব্যক্তিগত বিক্ৰী
3. বিজ্ঞাপন
4. প্ৰচাৰ

Options :

485584145937. 1
485584145938. 2
485584145939. 3
485584145940. 4

History

Group Number :	4
Group Id :	485584824
Group Maximum Duration :	45
Group Minimum Duration :	45
Show Attended Group? :	No
Edit Attended Group? :	No
Break time :	0
Group Marks :	200
Is this Group for Examiner? :	No
Examiner permission :	Cant View
Show Progress Bar? :	No

History

Section Id :	485584948
Section Number :	1
Section type :	Online
Mandatory or Optional :	Mandatory
Number of Questions :	50
Number of Questions to be attempted :	40
Section Marks :	200
Enable Mark as Answered Mark for Review and Clear Response :	Yes
Maximum Instruction Time :	0
Sub-Section Number :	1
Sub-Section Id :	4855842696
Question Shuffling Allowed :	Yes
Is Section Default? :	null

Question Number : 101 Question Id : 48558436486 Question Type : MCQ Option Shuffling : No Is Question Mandatory :
No Calculator : None Response Time : N.A Think Time : N.A Minimum Instruction Time : 0
Correct Marks : 5 Wrong Marks : 1
Question Key Details :

Key	Value
Comprehension	MCQ

Who made the following statement: "Marshall left India three thousand years older than he had found her."

1. Daya Ram Sahni
2. Rakhal Das Banerji
3. R.E. M. Wheeler
4. S.N. Roy

Options :

485584145941. 1
485584145942. 2
485584145943. 3
485584145944. 4

Question Number : 101 Question Id : 48558436486 Question Type : MCQ Option Shuffling : No Is Question Mandatory : No Calculator : None Response Time : N.A Think Time : N.A Minimum Instruction Time : 0

Correct Marks : 5 Wrong Marks : 1

Question Key Details :

Key	Value
Comprehension	MCQ

কেনে কৈছিল: "দেশ আৱিষ্কাৰ হোৱাৰ তিনি হাজাৰ বছৰৰ আগতেই মাস্বালে ভাৰত এৰি গুচি গৈছিল"।

1. দয়া ৰাম চাহনী
2. ৰাখাল দাস বেনাৰ্জী
3. আৰ ই এম হুইলাৰ
4. এছ এন ৰয়

Options :

485584145941. 1
485584145942. 2
485584145943. 3
485584145944. 4

Question Number : 102 Question Id : 48558436487 Question Type : MCQ Option Shuffling : No Is Question Mandatory : No Calculator : None Response Time : N.A Think Time : N.A Minimum Instruction Time : 0

Correct Marks : 5 Wrong Marks : 1

Question Key Details :

Key	Value
Comprehension	MCQ

Archaeological study of a mound can provide cultural sequence for a site. Study of such layers is called

1. Ethnography
2. Stratigraphy
3. Epigraphy
4. Sociography

Options :

485584145945. 1
485584145946. 2
485584145947. 3
485584145948. 4

Question Number : 102 Question Id : 48558436487 Question Type : MCQ Option Shuffling : No Is Question Mandatory : No Calculator : None Response Time : N.A Think Time : N.A Minimum Instruction Time : 0

Correct Marks : 5 Wrong Marks : 1

Question Key Details :

Key	Value
Comprehension	MCQ

এটা পাহাৰৰ টিলাৰ ওপৰত পুৰাতত্ত্ব জৰীপে ঠাইখনৰ সাংস্কৃতিক পৰিক্ৰমাৰ আভাস দিয়ে। ইয়াক কোৱা হয়-

1. এথন'গ্ৰাফী
2. ষ্ট্ৰেটিগ্ৰাফী
3. এপিগ্ৰাফী
4. ছচিঅ'গ্ৰাফী

Options :

485584145945. 1
485584145946. 2
485584145947. 3
485584145948. 4

Question Number : 103 Question Id : 48558436488 Question Type : MCQ Option Shuffling : No Is Question Mandatory : No Calculator : None Response Time : N.A Think Time : N.A Minimum Instruction Time : 0

Correct Marks : 5 Wrong Marks : 1

Question Key Details :

Key	Value
Comprehension	MCQ

Which of the following Harappan sites were located near the coast?

1. Banawali and Rakhigarhi
2. Nageshwar and Balakot
3. Ganweriwala and Mitathal
4. Kot-Diji and Kalibangan

Options :

485584145949. 1
485584145950. 2
485584145951. 3
485584145952. 4

Question Number : 103 Question Id : 48558436488 Question Type : MCQ Option Shuffling : No Is Question Mandatory : No Calculator : None Response Time : N.A Think Time : N.A Minimum Instruction Time : 0

Correct Marks : 5 Wrong Marks : 1

Question Key Details :

Key	Value
Comprehension	MCQ

কোনটো হৰপ্পা অঞ্চল উপকূলত অৱস্থিত?

1. বনৱালী আৰু ৰাখীগাৰ্হী
2. নাগেশ্বৰ আৰু বালাকুট
3. গানৱেৰিৱালা আৰু মিটাথল
4. কত-দিজি আৰু কলিবানগান

Options :

485584145949. 1
485584145950. 2
485584145951. 3
485584145952. 4

Question Number : 104 Question Id : 48558436489 Question Type : MCQ Option Shuffling : No Is Question Mandatory : No Calculator : None Response Time : N.A Think Time : N.A Minimum Instruction Time : 0

Correct Marks : 5 Wrong Marks : 1

Question Key Details :

Key	Value
Comprehension	MCQ

Who among the following is often held as the 'Father of Indian Archaeology'?

1. John Marshall
2. Alexander Cunningham
3. James Prinsep
4. R.E.M. Wheeler

Options :

485584145953. 1
485584145954. 2
485584145955. 3
485584145956. 4

Question Number : 104 Question Id : 48558436489 Question Type : MCQ Option Shuffling : No Is Question Mandatory : No Calculator : None Response Time : N.A Think Time : N.A Minimum Instruction Time : 0

Correct Marks : 5 Wrong Marks : 1

Question Key Details :

Key	Value
Comprehension	MCQ

তলৰ কোনজনক ভাৰতীয় পুৰাতত্ত্বৰ পিতৃ বুলি গনা কৰা হয়?

1. জন মার্শ্বাল
2. আলেক্সেঞ্জাৰ কনিংহাম
3. জেমছ প্ৰিনচেপ
4. আৰ ই এম হুইলাৰ

Options :

485584145953. 1
485584145954. 2
485584145955. 3
485584145956. 4

Question Number : 105 Question Id : 48558436490 Question Type : MCQ Option Shuffling : No Is Question Mandatory : No Calculator : None Response Time : N.A Think Time : N.A Minimum Instruction Time : 0

Correct Marks : 5 Wrong Marks : 1

Question Key Details :

Key	Value
Comprehension	MCQ

Traces of canals have been found at the Harappan site of Shortughai, which is located in _____

1. Punjab
2. Sind
3. Afghanistan
4. Gujarat

Options :

485584145957. 1
485584145958. 2
485584145959. 3
485584145960. 4

Question Number : 105 Question Id : 48558436490 Question Type : MCQ Option Shuffling : No Is Question Mandatory : No Calculator : None Response Time : N.A Think Time : N.A Minimum Instruction Time : 0

Correct Marks : 5 Wrong Marks : 1

Question Key Details :

Key	Value
Comprehension	MCQ

হবপ্পাৰ ছৰ্তুঘাই অঞ্চলত খালৰ (নলা) সঙ্কান পোৱা গৈছে। এই অঞ্চল বৰ্তমান ক'ত অৱস্থিত?

1. পঞ্জাব
2. সিন্ধ
3. আফগানিস্তান
4. গুজৰাট

Options :

485584145957. 1
485584145958. 2
485584145959. 3
485584145960. 4

Question Number : 106 Question Id : 48558436491 Question Type : MCQ Option Shuffling : No Is Question Mandatory : No Calculator : None Response Time : N.A Think Time : N.A Minimum Instruction Time : 0

Correct Marks : 5 Wrong Marks : 1

Question Key Details :

Key	Value
Comprehension	MCQ

In ancient India, the first coins to bear the names and images of the rulers were issued by the _____.

1. Indo-Greeks
2. Kushans
3. Parthians
4. Shakas

Options :

485584145961. 1
485584145962. 2
485584145963. 3
485584145964. 4

Question Number : 106 Question Id : 48558436491 Question Type : MCQ Option Shuffling : No Is Question Mandatory : No Calculator : None Response Time : N.A Think Time : N.A Minimum Instruction Time : 0

Correct Marks : 5 Wrong Marks : 1

Question Key Details :

Key	Value
Comprehension	MCQ

প্রাচীন ভাৰতত শাসকৰ নাম আৰু ছবি সম্বলিত মুদ্রা প্ৰচলন কৰে _____.

1. ইণ্ডো-গ্ৰীকসকলে
2. কুশাণসকলে
3. পাৰ্থিয়ানসকলে
4. শক সকলে

Options :

485584145961. 1
485584145962. 2
485584145963. 3
485584145964. 4

Question Number : 107 Question Id : 48558436492 Question Type : MCQ Option Shuffling : No Is Question Mandatory : No Calculator : None Response Time : N.A Think Time : N.A Minimum Instruction Time : 0

Correct Marks : 5 Wrong Marks : 1

Question Key Details :

Key	Value
Comprehension	MCQ

Which place are you visiting if you come across the lion capital built by Asoka?

1. Varanasi
2. Delhi
3. Sarnath
4. Ujjayini

Options :

485584145965. 1
485584145966. 2
485584145967. 3
485584145968. 4

Question Number : 107 Question Id : 48558436492 Question Type : MCQ Option Shuffling : No Is Question Mandatory : No Calculator : None Response Time : N.A Think Time : N.A Minimum Instruction Time : 0

Correct Marks : 5 Wrong Marks : 1

Question Key Details :

Key	Value
Comprehension	MCQ

সম্রাট অশোকে নিৰ্মাণ কৰা সিংহ নগৰীলৈ আহিলে তলৰ কোন ঠাই ভ্ৰমণ কৰিবা?

1. বাৰাণসী
2. দিল্লী
3. সাৰনাথ
4. উজ্জয়িনী

Options :

485584145965. 1
485584145966. 2
485584145967. 3
485584145968. 4

Question Number : 108 Question Id : 48558436493 Question Type : MCQ Option Shuffling : No Is Question Mandatory : No Calculator : None Response Time : N.A Think Time : N.A Minimum Instruction Time : 0

Correct Marks : 5 Wrong Marks : 1

Question Key Details :

Key	Value
Comprehension	MCQ

Prabhavati Gupta was the daughter of _____.

1. Chandragupta II
2. Samudragupta
3. Chandragupta Maurya
4. Skandgupta

Options :

485584145969. 1
485584145970. 2
485584145971. 3
485584145972. 4

Question Number : 108 Question Id : 48558436493 Question Type : MCQ Option Shuffling : No Is Question Mandatory : No Calculator : None Response Time : N.A Think Time : N.A Minimum Instruction Time : 0

Correct Marks : 5 Wrong Marks : 1

Question Key Details :

Key	Value
Comprehension	MCQ

প্রভাবতী কার কন্যা ?

1. চন্দ্রগুপ্ত II
2. সমুদ্রগুপ্ত
3. চন্দ্রগুপ্ত মৌর্য
4. স্কন্দগুপ্ত

Options :

485584145969. 1
485584145970. 2
485584145971. 3
485584145972. 4

Question Number : 109 Question Id : 48558436494 Question Type : MCQ Option Shuffling : No Is Question Mandatory : No Calculator : None Response Time : N.A Think Time : N.A Minimum Instruction Time : 0

Correct Marks : 5 Wrong Marks : 1

Question Key Details :

Key	Value
Comprehension	MCQ

Which of the following statements are **correct**?

- A. The Dharmasutras and Dharmashastras recognised as many as twelve forms of marriages.
- B. People were classified into gotras and each gotra was named after a Vedic seer.
- C. Jatis, which shared a common occupation, were sometimes organised into shrenis or guilds.
- D. Women were allowed to retain the gifts they received on their marriage as 'Stridhana' to be inherited by their children.
- E. Matriliney is the term used when descent is traced through the mother.

Choose the **correct** answer from the options given below:

- 1. A, B, C, E only
- 2. A, C, D, E only
- 3. B, C, D, E only
- 4. A, B, D, E only

Options :

- 485584145973. 1
- 485584145974. 2
- 485584145975. 3
- 485584145976. 4

Question Number : 109 Question Id : 48558436494 Question Type : MCQ Option Shuffling : No Is Question Mandatory : No Calculator : None Response Time : N.A Think Time : N.A Minimum Instruction Time : 0

Correct Marks : 5 Wrong Marks : 1

Question Key Details :

Key	Value
Comprehension	MCQ

তলৰ কোনটো বাক্য শুদ্ধঃ

- A. ধৰ্মসূত্ৰ আৰু ধৰ্মশাস্ত্ৰই বাৰ প্ৰকাৰৰ বিবাহক স্বীকৃতি দিছে।
- B. মানুহক কিছুমান গোত্ৰত বিভাজন কৰি বেদৰ সন্ত এজনৰ নাম দিয়া হয়।
- C. একে জীৱিকা থকা জাতিক সংগঠিতভাৱে "শ্ৰেণী" বাগীন্দ বুলি কোৱা হয়।
- D. বিয়াত লাভ কৰা বিভিন্ন উপহাৰক স্ত্ৰী-ধন বুলি কোৱা হয় আৰু পাছলৈ সতি-সন্ততিক হস্তান্তৰ কৰা হয়।
- E. সতি-সন্ততিক মাকৰ বংশৰ ফলৰ পৰা ধৰিলে মাতৃপ্ৰধান বুলি কয়।

- 1. কেৱল A, B, C, E
- 2. কেৱল A, C, D, E
- 3. কেৱল B, C, D, E
- 4. কেৱল A, B, D, E

Options :

- 485584145973. 1
- 485584145974. 2
- 485584145975. 3

Question Number : 110 Question Id : 48558436495 Question Type : MCQ Option Shuffling : No Is Question Mandatory : No Calculator : None Response Time : N.A Think Time : N.A Minimum Instruction Time : 0

Correct Marks : 5 Wrong Marks : 1

Question Key Details :

Key	Value
Comprehension	MCQ

What did Ibn Battuta observe when he visited the city of Delhi?

- A. Its beautiful temple architecture in every part of the city.
- B. Its fine cemetery with domes and arches.
- C. Its imposing stupas in the heart of the city.
- D. Its twenty-eight big darwazas.
- E. Its many waterfalls within the city.

Choose the correct answer from the options given below:

- 1. A, B only
- 2. C, D only
- 3. B, D only
- 4. D, E only

Options :

- 485584145977. 1
- 485584145978. 2
- 485584145979. 3
- 485584145980. 4

Question Number : 110 Question Id : 48558436495 Question Type : MCQ Option Shuffling : No Is Question Mandatory : No Calculator : None Response Time : N.A Think Time : N.A Minimum Instruction Time : 0

Correct Marks : 5 Wrong Marks : 1

Question Key Details :

Key	Value
Comprehension	MCQ

ইবন বটুটাই দিল্লী ভ্ৰমণ কালত কি পর্যবেক্ষণ কৰিছিল?

- A. নগৰখনৰ প্ৰতিটো অঞ্চলত সুন্দৰ স্থাপত্যবিদ্যাৰ সহায়ত নিৰ্মাণ হোৱা মন্দিৰ
- B. কলহিসহ সুন্দৰ কবৰস্থান
- C. মাজ-মজিয়াত সুন্দৰ স্তূপ
- D. আঠাইছ খন প্ৰকাণ্ড দুৱাৰ.
- E. মহানগৰীখনত ভালেসংখ্যক জলপ্ৰপাত

নিম্নলিখিত বিকল্পসমূহৰ পৰা শুদ্ধ উত্তৰটো বাছনি কৰা

- 1. A and B only
- 2. C and D only
- 3. B and D only
- 4. D and E only

Options :

- 485584145977. 1
- 485584145978. 2
- 485584145979. 3
- 485584145980. 4

Question Number : 111 Question Id : 48558436496 Question Type : MCQ Option Shuffling : No Is Question Mandatory : No Calculator : None Response Time : N.A Think Time : N.A Minimum Instruction Time : 0

Correct Marks : 5 Wrong Marks : 1

Question Key Details :

Key	Value
Comprehension	MCQ

Match List I with List II:

LIST I (Traders)		LIST II (Countries)	
A.	Nicolo de Conti	I.	England
B.	Duarte Barbosa	II.	Italy
C.	Peter Mundy	III.	Russia
D.	Afanasii Nikitin	IV.	Portugal

Choose the correct answer from the options given below:

- 1. A-II, B-I, C-III, D-IV
- 2. A-II, B-III, C-IV, D-I
- 3. A-IV, B-III, C-II, D-I
- 4. A-II, B-IV, C-I, D-III

Options :

- 485584145981. 1
- 485584145982. 2

485584145983. 3

485584145984. 4

Question Number : 111 Question Id : 48558436496 Question Type : MCQ Option Shuffling : No Is Question Mandatory : No Calculator : None Response Time : N.A Think Time : N.A Minimum Instruction Time : 0

Correct Marks : 5 Wrong Marks : 1

Question Key Details :

Key	Value
Comprehension	MCQ

তালিকা I ৰ সৈতে তালিকা II মিলোৱা

তালিকা I ব্যৱসায়ী		তালিকা II দেশ	
A.	নিকল ডি কন্ট	I.	ইংলেণ্ড
B.	দুৱাটি বাৰবচা	II.	ইটালী
C.	পেটাৰ মুণ্ড	III.	ৰাছিয়া
D.	আফানাটা নিকিটন	IV.	পৰ্তুগাল

তলৰ বিকল্পৰ পৰা সঠিক উত্তৰ বাছি উলিওৱা

1. A-II, B-I, C-III, D-IV

2. A-II, B-III, C-IV, D-I

3. A-IV, B-III, C-II, D-I

4. A-II, B-IV, C-I, D-III

Options :

485584145981. 1

485584145982. 2

485584145983. 3

485584145984. 4

Question Number : 112 Question Id : 48558436497 Question Type : MCQ Option Shuffling : No Is Question Mandatory : No Calculator : None Response Time : N.A Think Time : N.A Minimum Instruction Time : 0

Correct Marks : 5 Wrong Marks : 1

Question Key Details :

Key	Value
Comprehension	MCQ

Match List I with List II:

LIST I		LIST II	
A.	Alvars	I.	Bijak
B.	Virashaiva	II.	Tevaram
C.	Nayanars	III.	Nalayira Divyaprabandham
D.	Kabir	IV.	Vachanas

Choose the correct answer from the options given below:

1. A-I, B-IV, C-III, D-II
2. A-III, B-IV, C-II, D-I
3. A-II, B-I, C-III, D-IV
4. A-IV, B-III, C-I, D-II

Options :

485584145985. 1
485584145986. 2
485584145987. 3
485584145988. 4

Question Number : 112 Question Id : 48558436497 Question Type : MCQ Option Shuffling : No Is Question Mandatory : No Calculator : None Response Time : N.A Think Time : N.A Minimum Instruction Time : 0

Correct Marks : 5 Wrong Marks : 1

Question Key Details :

Key	Value
Comprehension	MCQ

তালিকা I ৰ সৈতে তালিকা II মিলোৱা

তালিকা I		তালিকা II	
A.	এলভাৰ্চ	I.	বিজ়াক
B.	বিৰাচৈৱ	II.	টেভাৰাম
C.	নয়ানৰচ	III.	নালাইয়াৰা দ্ৰব্য প্ৰবন্ধম
D.	কবীৰ	IV.	ভাচানচ

তলৰ বিকল্পৰ পৰা সঠিক উত্তৰ বাছি উলিওৱা

1. A-I, B-IV, C-III, D-II
2. A-III, B-IV, C-II, D-I
3. A-II, B-I, C-III, D-IV
4. A-IV, B-III, C-I, D-II

Options :

485584145985. 1
485584145986. 2
485584145987. 3

Question Number : 113 Question Id : 48558436498 Question Type : MCQ Option Shuffling : No Is Question Mandatory : No Calculator : None Response Time : N.A Think Time : N.A Minimum Instruction Time : 0

Correct Marks : 5 Wrong Marks : 1

Question Key Details :

Key	Value
Comprehension	MCQ

Match List I with List II:

LIST I (Sufi Teachers)		LIST II (Year of Death)	
A.	Muinuddin Sijzi	I.	1265
B.	Fariduddin Ganj-i-Shakar	II.	1235
C.	Nizamuddin Auliya	III.	1356
D.	Nasiruddin Chirag	IV.	1325

Choose the correct answer from the options given below:

1. A-II, B-III, C-I, D-IV
2. A-I, B-II, C-III, D-IV
3. A-II, B-I, C-IV, D-III
4. A-IV, B-III, C-I, D-II

Options :

485584145989. 1

485584145990. 2

485584145991. 3

485584145992. 4

Question Number : 113 Question Id : 48558436498 Question Type : MCQ Option Shuffling : No Is Question Mandatory : No Calculator : None Response Time : N.A Think Time : N.A Minimum Instruction Time : 0

Correct Marks : 5 Wrong Marks : 1

Question Key Details :

Key	Value
Comprehension	MCQ

তালিকা I ৰ সৈতে তালিকা II মিলোৱা:

তালিকা I (চুফি শিক্ষক)		তালিকা II (মতুবৰ্ষ)	
A.	মুহিনুদ্দিন চিৰ্জী	I.	1265
B.	ফাৰিদ্দিন গঞ্জী ই শ্বাকৰ	II.	1235
C.	নিজামুদ্দিন আওলিয়া	III.	1356
D.	নাছৰুদ্দিন চিৰাগ	IV.	1325

ভুলত দিয়ামসূহৰ পৰা শুদ্ধ উত্তৰ বাছি উলিওৱা

1. A-II, B-III, C-I, D-IV

2. A-I, B-II, C-III, D-IV

3. A-II, B-I, C-IV, D-III

4. A-IV, B-III, C-I, D-II

Options :

485584145989. 1

485584145990. 2

485584145991. 3

485584145992. 4

Question Number : 114 Question Id : 48558436499 Question Type : MCQ Option Shuffling : No Is Question Mandatory : No Calculator : None Response Time : N.A Think Time : N.A Minimum Instruction Time : 0

Correct Marks : 5 Wrong Marks : 1

Question Key Details :

Key	Value
Comprehension	MCQ

Choose the **incorrect** statement out of the following:

1. Guru Nanak rejected the sacrifices and rituals of both Hindus and Muslims.

2. Guru Nanak did not wish to establish his own new religion.

3. Guru Nanak advocated the form of Nirguna Bhakti.

4. Guru Nanak appointed one his disciple 'Angad' to succeed him as the perceptor.

Options :

485584145993. 1

485584145994. 2

485584145995. 3

485584145996. 4

Question Number : 114 Question Id : 48558436499 Question Type : MCQ Option Shuffling : No Is Question Mandatory : No Calculator : None Response Time : N.A Think Time : N.A Minimum Instruction Time : 0

Correct Marks : 5 Wrong Marks : 1

Question Key Details :

Key	Value
Comprehension	MCQ

অশুদ্ধ বাক্যটো বাছি উলিওৱাঃ

1. গুৰু নানকে বলি বিধানৰ লগতে হিন্দু আৰু মুছলমানৰ সকলো নীতি-নিয়ম অগ্রাজ্য কৰিছিল
2. গুৰুনানকে তেওঁৰ নতুন ধৰ্ম প্রতিষ্ঠা কৰিবলৈ বিচৰা নাছিল
3. গুৰু নানকে নিৰ্গুণ ভক্তিৰ সপক্ষে যুক্তি আগবঢ়াইছিল
4. গুৰু নানকে 'Angad' নামৰ এজন শিষ্যক তেখেতৰ পৰৱৰ্তী হিচাপে নিযুক্তি দিছিল

Options :

485584145993. 1
485584145994. 2
485584145995. 3
485584145996. 4

Question Number : 115 Question Id : 48558436500 Question Type : MCQ Option Shuffling : No Is Question Mandatory : No Calculator : None Response Time : N.A Think Time : N.A Minimum Instruction Time : 0

Correct Marks : 5 Wrong Marks : 1

Question Key Details :

Key	Value
Comprehension	MCQ

Chronologically arrange the landmark events in the discovery of Vijayanagara.

- A. Conservation under John Marshall.
- B. Documentation of temple inscriptions by J.F. Fleet.
- C. Survey of Vijayanagara by Colin Mackenzie.
- D. Status of world heritage site by UNESCO.
- E. Photography of the archaeological site under Alexander Greenlaw.

Choose the correct answer from the options given below:

1. C, E, B, A, D
2. B, D, A, E, C
3. C, D, A, B, E
4. E, A, C, D, B

Options :

485584145997. 1
485584145998. 2
485584145999. 3
485584146000. 4

Question Number : 115 Question Id : 48558436500 Question Type : MCQ Option Shuffling : No Is Question Mandatory : No Calculator : None Response Time : N.A Think Time : N.A Minimum Instruction Time : 0

Correct Marks : 5 Wrong Marks : 1

Question Key Details :

Key	Value
Comprehension	MCQ

বিজয়নগৰ আৱিষ্কাৰ সম্পৰ্কে ঘটনা প্ৰবাহ একাদিক্ৰমে সজোৱা

- A. জন মাৰ্শ্বালৰ অধীনত সংৰক্ষণ
- B. জে.এফ. ফ্লিটৰ দ্বাৰা মন্দিৰৰ আখৰ লিপিবদ্ধ কৰা
- C. কলিন মেকেনাইজৰ দ্বাৰা বিজয়নগৰত জৰীপ
- D. বিশ্বৰ ঐতিহ্যমণ্ডিত ঠাই হিচাপে ইউনেস্ক'ৰ ঘোষণা
- E. আলেক্সেণ্ডাৰ গ্ৰীন ল'ৰ অধীনত খননস্থলীৰ ফটো তোলা।

তলত দিয়াসমূহৰ পৰা শুদ্ধ উত্তৰ বাছি উলিওৱা

- 1. C, E, B, A, D
- 2. B, D, A, E, C
- 3. C, D, A, B, E
- 4. E, A, C, D, B

Options :

- 485584145997. 1
- 485584145998. 2
- 485584145999. 3
- 485584146000. 4

Question Number : 116 Question Id : 48558436501 Question Type : MCQ Option Shuffling : No Is Question Mandatory : No Calculator : None Response Time : N.A Think Time : N.A Minimum Instruction Time : 0

Correct Marks : 5 Wrong Marks : 1

Question Key Details :

Key	Value
Comprehension	MCQ

Arrange the following dynasties in a chronological order.

- A. Tuluva dynasty
- B. Saluva dynasty
- C. Aravidu dynasty
- D. Sangama dynasty

Choose the **correct** answer from the options given below:

- 1. A, B, C, D
- 2. A, B, D, C
- 3. C, D, A, B
- 4. D, B, A, C

Options :

- 485584146001. 1

485584146002. 2
485584146003. 3
485584146004. 4

Question Number : 116 Question Id : 48558436501 Question Type : MCQ Option Shuffling : No Is Question Mandatory : No Calculator : None Response Time : N.A Think Time : N.A Minimum Instruction Time : 0

Correct Marks : 5 Wrong Marks : 1

Question Key Details :

Key	Value
Comprehension	MCQ

তলৰ বংশবিলাক একাদিক্ৰমে সজোৱা

- A. তুলৰা বংশ
- B. চালোৱা বংশ
- C. অৰাবিডু বংশ
- D. সংগামা বংশ

তলত দিয়ামূহৰ পৰা শুদ্ধ উত্তৰ বাছি উলিওৱা

- 1. A, B, C, D
- 2. A, B, D, C
- 3. C, D, A, B
- 4. D, B, A, C

Options :

485584146001. 1
485584146002. 2
485584146003. 3
485584146004. 4

Question Number : 117 Question Id : 48558436502 Question Type : MCQ Option Shuffling : No Is Question Mandatory : No Calculator : None Response Time : N.A Think Time : N.A Minimum Instruction Time : 0

Correct Marks : 5 Wrong Marks : 1

Question Key Details :

Key	Value
Comprehension	MCQ

What is a 'Gopuram' in the context of Vijayanagara Empire?

- 1. Mandapa
- 2. Platform
- 3. Shrine
- 4. Gateway

Options :

485584146005. 1

485584146006. 2
485584146007. 3
485584146008. 4

**Question Number : 117 Question Id : 48558436502 Question Type : MCQ Option Shuffling : No Is Question Mandatory :
No Calculator : None Response Time : N.A Think Time : N.A Minimum Instruction Time : 0**

Correct Marks : 5 Wrong Marks : 1

Question Key Details :

Key	Value
Comprehension	MCQ

বিজয়নগৰ সাম্ৰাজ্যৰ 'গপুৰাম' কি?

1. মাল্লাপা

2. মঞ্চ

3. চূড়া

4. জপনামুখ

Options :

485584146005. 1
485584146006. 2
485584146007. 3
485584146008. 4

**Question Number : 118 Question Id : 48558436503 Question Type : MCQ Option Shuffling : No Is Question Mandatory :
No Calculator : None Response Time : N.A Think Time : N.A Minimum Instruction Time : 0**

Correct Marks : 5 Wrong Marks : 1

Question Key Details :

Key	Value
Comprehension	MCQ

Vijayanagara kings claimed to rule on behalf of the God _____.

1. Pampadevi

2. Virupaksha

3. Vitthala

4. Rama

Options :

485584146009. 1
485584146010. 2
485584146011. 3
485584146012. 4

Question Number : 118 Question Id : 48558436503 Question Type : MCQ Option Shuffling : No Is Question Mandatory : No Calculator : None Response Time : N.A Think Time : N.A Minimum Instruction Time : 0

Correct Marks : 5 Wrong Marks : 1

Question Key Details :

Key	Value
Comprehension	MCQ

কোনগৰাকী ভগৱানৰ নামত বিজয়নগৰৰ ৰজাই দেশ শাসন কৰা বুলি দাবী কৰিছিল?

1. পমাদেৱী
2. বিৰূপাক্ষ
3. ভিখল
4. ৰাম

Options :

485584146009. 1
485584146010. 2
485584146011. 3
485584146012. 4

Question Number : 119 Question Id : 48558436504 Question Type : MCQ Option Shuffling : No Is Question Mandatory : No Calculator : None Response Time : N.A Think Time : N.A Minimum Instruction Time : 0

Correct Marks : 5 Wrong Marks : 1

Question Key Details :

Key	Value
Comprehension	MCQ

The Vijayanagara Empire was known to its contemporaries as _____.

1. Maharashtra Samrajyamu
2. Andhra Samrajyamu
3. Tamil Samrajyamu
4. Karnataka Samrajyamu

Options :

485584146013. 1
485584146014. 2
485584146015. 3
485584146016. 4

Question Number : 119 Question Id : 48558436504 Question Type : MCQ Option Shuffling : No Is Question Mandatory : No Calculator : None Response Time : N.A Think Time : N.A Minimum Instruction Time : 0

Correct Marks : 5 Wrong Marks : 1

Question Key Details :

Key	Value
Comprehension	MCQ

সেই সময়ত বিজয়নগৰ সাম্ৰাজ্যক কি বুলি জনা গৈছিল?

1. মহাৰাষ্ট্ৰ সাম্ৰাজ্যমু
2. অন্ধ্ৰ সাম্ৰাজ্যমু
3. তামিল সাম্ৰাজ্যমু
4. কৰ্ণাটক সাম্ৰাজ্যমু

Options :

485584146013. 1
485584146014. 2
485584146015. 3
485584146016. 4

Question Number : 120 Question Id : 48558436505 Question Type : MCQ Option Shuffling : No Is Question Mandatory : No Calculator : None Response Time : N.A Think Time : N.A Minimum Instruction Time : 0

Correct Marks : 5 Wrong Marks : 1

Question Key Details :

Key	Value
Comprehension	MCQ

In the 17th century, Indo-Persian sources, the term for non-resident cultivators, who belonged to some other village but cultivated land elsewhere on contractual basis, were known as _____.

1. Khud-Kashta
2. Pahi-Kashta
3. Muqaddam
4. Muzarian

Options :

485584146017. 1
485584146018. 2
485584146019. 3
485584146020. 4

Question Number : 120 Question Id : 48558436505 Question Type : MCQ Option Shuffling : No Is Question Mandatory : No Calculator : None Response Time : N.A Think Time : N.A Minimum Instruction Time : 0

Correct Marks : 5 Wrong Marks : 1

Question Key Details :

Key	Value
Comprehension	MCQ

17শ শতিকাত খেতিয়কে নিজৰ ঠাইৰ পৰা আতৰি বেলেগ ঠাই চুক্তিবদ্ধ হৈ খেতি কৰিলে পাৰ্ছী ভাষাত কি বুলি কোৱা হৈছিল?

1. খুদ-কাষ্টা
2. পাহী-কাষ্টা
3. মোকাদ্দাম
4. মোজাৰিয়ন

Options :

485584146017. 1
485584146018. 2
485584146019. 3
485584146020. 4

Question Number : 121 Question Id : 48558436506 Question Type : MCQ Option Shuffling : No Is Question Mandatory : No Calculator : None Response Time : N.A Think Time : N.A Minimum Instruction Time : 0

Correct Marks : 5 Wrong Marks : 1

Question Key Details :

Key	Value
Comprehension	MCQ

Identify the **correct** sequence of the chronicles written during the Mughal period.

- A. Akbar Nama
- B. Alangir Nama
- C. Char Chaman
- D. Jahangir Nama
- E. Humayun Nama

Choose the **correct** answer from the options given below:

1. A, C, B, D, E
2. A, D, B, C, E
3. E, A, B, D, C
4. E, A, D, C, B

Options :

485584146021. 1
485584146022. 2
485584146023. 3
485584146024. 4

Question Number : 121 Question Id : 48558436506 Question Type : MCQ Option Shuffling : No Is Question Mandatory : No Calculator : None Response Time : N.A Think Time : N.A Minimum Instruction Time : 0

Correct Marks : 5 Wrong Marks : 1

Question Key Details :

Key	Value
Comprehension	MCQ

মোগল শাসনৰ সময়ছোৱাত তলৰ ৰচনাবোৰৰ সঠিক যোৰাবোৰ বাছি উলিওৱা

- A. আকবৰ নামা
- B. আলমগিৰ নামা
- C. চৰ চমান
- D. জাহাংগীৰ নামা
- E. হুমায়ুন নামা

তলত দিয়াসমূহৰ পৰা শুদ্ধ উত্তৰ বাছি উলিওৱা

- 1. A, C, B, D, E
- 2. A, D, B, C, E
- 3. E, A, B, D, C
- 4. E, A, D, C, B

Options :

- 485584146021. 1
- 485584146022. 2
- 485584146023. 3
- 485584146024. 4

Question Number : 122 Question Id : 48558436507 Question Type : MCQ Option Shuffling : No Is Question Mandatory : No Calculator : None Response Time : N.A Think Time : N.A Minimum Instruction Time : 0

Correct Marks : 5 Wrong Marks : 1

Question Key Details :

Key	Value
Comprehension	MCQ

Which minister looked after the finances in the Mughal Empire?

- 1. Sadr-us-Sadur
- 2. Diwan-i-Ala
- 3. Mir Bakshi
- 4. Mir Saman

Options :

- 485584146025. 1
- 485584146026. 2
- 485584146027. 3
- 485584146028. 4

Question Number : 122 Question Id : 48558436507 Question Type : MCQ Option Shuffling : No Is Question Mandatory : No Calculator : None Response Time : N.A Think Time : N.A Minimum Instruction Time : 0

Correct Marks : 5 Wrong Marks : 1

Question Key Details :

Key	Value
Comprehension	MCQ

মোগল সাম্রাজ্যৰ বিত্তীয় বিভাগ কোন মন্ত্ৰীয়ে চোৱাচিতা কৰিছিল?

1. চাদৰ্- আছ-চাদুৰ
2. দিৱান-ই-আল্লা
3. মিৰ বাক্সি
4. মিৰ ছামান

Options :

485584146025. 1
485584146026. 2
485584146027. 3
485584146028. 4

Question Number : 123 Question Id : 48558436508 Question Type : MCQ Option Shuffling : No Is Question Mandatory : No Calculator : None Response Time : N.A Think Time : N.A Minimum Instruction Time : 0

Correct Marks : 5 Wrong Marks : 1

Question Key Details :

Key	Value
Comprehension	MCQ

Whom did Akbar honour with the title "Zarrin qalam"?

1. Muhammad Husayn
2. Abul Hasan
3. Payag
4. Abdul Hamid Lahori

Options :

485584146029. 1
485584146030. 2
485584146031. 3
485584146032. 4

Question Number : 123 Question Id : 48558436508 Question Type : MCQ Option Shuffling : No Is Question Mandatory : No Calculator : None Response Time : N.A Think Time : N.A Minimum Instruction Time : 0

Correct Marks : 5 Wrong Marks : 1

Question Key Details :

Key	Value
Comprehension	MCQ

"জাৰিণ কালাম" উপাধীৰে আকবৰে কাক সন্মান জনাইছিল?

1. মহম্মদ হুচায়ন
2. আবুল হাছান
3. পয়গ
4. আব্দুল হামিদ লাহৰি

Options :

485584146029. 1
485584146030. 2
485584146031. 3
485584146032. 4

Question Number : 124 Question Id : 48558436509 Question Type : MCQ Option Shuffling : No Is Question Mandatory : No Calculator : None Response Time : N.A Think Time : N.A Minimum Instruction Time : 0

Correct Marks : 5 Wrong Marks : 1

Question Key Details :

Key	Value
Comprehension	MCQ

The Permanent Settlement came into operation in _____

1. 1864
2. 1757
3. 1793
4. 1800

Options :

485584146033. 1
485584146034. 2
485584146035. 3
485584146036. 4

Question Number : 124 Question Id : 48558436509 Question Type : MCQ Option Shuffling : No Is Question Mandatory : No Calculator : None Response Time : N.A Think Time : N.A Minimum Instruction Time : 0

Correct Marks : 5 Wrong Marks : 1

Question Key Details :

Key	Value
Comprehension	MCQ

কোন চনত স্থায়ী বন্দোবস্তৰ কাম আৰম্ভ হয়?

1. 1864
2. 1757
3. 1793
4. 1800

Options :

485584146033. 1
485584146034. 2
485584146035. 3
485584146036. 4

Question Number : 125 Question Id : 48558436510 Question Type : MCQ Option Shuffling : No Is Question Mandatory : No Calculator : None Response Time : N.A Think Time : N.A Minimum Instruction Time : 0

Correct Marks : 5 Wrong Marks : 1

Question Key Details :

Key	Value
Comprehension	MCQ

The Manchester Cotton Company was formed in the year _____.

1. 1857
2. 1858
3. 1859
4. 1860

Options :

485584146037. 1
485584146038. 2
485584146039. 3
485584146040. 4

Question Number : 125 Question Id : 48558436510 Question Type : MCQ Option Shuffling : No Is Question Mandatory : No Calculator : None Response Time : N.A Think Time : N.A Minimum Instruction Time : 0

Correct Marks : 5 Wrong Marks : 1

Question Key Details :

Key	Value
Comprehension	MCQ

মানচেষ্টাৰ কপাহ কোম্পানী কোন চনত গঠন কৰা হয়?

1. 1857
2. 1858
3. 1859
4. 1860

Options :

485584146037. 1
485584146038. 2
485584146039. 3
485584146040. 4

Question Number : 126 Question Id : 48558436511 Question Type : MCQ Option Shuffling : No Is Question Mandatory : No Calculator : None Response Time : N.A Think Time : N.A Minimum Instruction Time : 0

Correct Marks : 5 Wrong Marks : 1

Question Key Details :

Key	Value
Comprehension	MCQ

Before the age of railway, the town of Mirzapur was a collection centre for cotton from which area?

1. Punjab
2. Tamil Nadu
3. Gujarat
4. Deccan

Options :

485584146041. 1
485584146042. 2
485584146043. 3
485584146044. 4

Question Number : 126 Question Id : 48558436511 Question Type : MCQ Option Shuffling : No Is Question Mandatory : No Calculator : None Response Time : N.A Think Time : N.A Minimum Instruction Time : 0

Correct Marks : 5 Wrong Marks : 1

Question Key Details :

Key	Value
Comprehension	MCQ

বেল সেৱা আৰম্ভ হোৱাৰ পূৰ্বে মিৰ্জাপুৰত কোন ঠাইৰ পৰা ৰূপাহ সংগ্ৰহ কৰা হৈছিল?

1. পঞ্জাব
2. তামিল নাডু
3. গুজৰাট
4. ডেক্কান

Options :

485584146041. 1
485584146042. 2
485584146043. 3
485584146044. 4

Question Number : 127 Question Id : 48558436512 Question Type : MCQ Option Shuffling : No Is Question Mandatory : No Calculator : None Response Time : N.A Think Time : N.A Minimum Instruction Time : 0

Correct Marks : 5 Wrong Marks : 1

Question Key Details :

Key	Value
Comprehension	MCQ

Satyajit Ray's film 'Jalshaghar' dealt with the subject matter of _____.

1. India's freedom struggle.
2. The decline of the aristocratic zamindari style of living.
3. Revolt of 1857.
4. Swadeshi Movement in Bengal.

Options :

485584146045. 1
485584146046. 2
485584146047. 3
485584146048. 4

Question Number : 127 Question Id : 48558436512 Question Type : MCQ Option Shuffling : No Is Question Mandatory : No Calculator : None Response Time : N.A Think Time : N.A Minimum Instruction Time : 0

Correct Marks : 5 Wrong Marks : 1

Question Key Details :

Key	Value
Comprehension	MCQ

সত্যজিৎ ৰায়ৰ 'জলচাঘৰ' চিনেমাৰ বিষয়বস্তু আছিল _____

1. ভাৰতৰ স্বাধীনতা সংগ্ৰাম
2. জমিদাৰী তথা আভিজাত্য সমাজৰ পতন
3. 1857 চনৰ বিদ্রোহ
4. বেংগলৰ স্বদেশী আন্দোলন

Options :

485584146045. 1
485584146046. 2
485584146047. 3
485584146048. 4

Question Number : 128 Question Id : 48558436513 Question Type : MCQ Option Shuffling : No Is Question Mandatory : No Calculator : None Response Time : N.A Think Time : N.A Minimum Instruction Time : 0

Correct Marks : 5 Wrong Marks : 1

Question Key Details :

Key	Value
Comprehension	MCQ

Who organised the zoo which later on became the Calcutta Alipore Zoo?

1. Francis Buchanan
2. Augustus Cornwallis
3. Charles Cornwallis
4. Maharaja Mehtab Chand

Options :

485584146049. 1
485584146050. 2
485584146051. 3
485584146052. 4

Question Number : 128 Question Id : 48558436513 Question Type : MCQ Option Shuffling : No Is Question Mandatory : No Calculator : None Response Time : N.A Think Time : N.A Minimum Instruction Time : 0

Correct Marks : 5 Wrong Marks : 1

Question Key Details :

Key	Value
Comprehension	MCQ

চিৰিয়াখানা কোনে গঠন কৰিছিল যিখন পৰৱৰ্তী পৰ্য্যায়ত কলিকতা আলিপুর চিৰিয়াখানা নামেৰে জনা গৈছিল ?

1. ফ্ৰান্সিছ বাকহানান
2. অগস্তাচ কৰ্ণৱালিচ
3. চাৰ্লছ কৰ্ণৱালিছ
4. মহাৰাজা মেহতাৰ চান্দ

Options :

485584146049. 1
485584146050. 2
485584146051. 3
485584146052. 4

Question Number : 129 Question Id : 48558436514 Question Type : MCQ Option Shuffling : No Is Question Mandatory : No Calculator : None Response Time : N.A Think Time : N.A Minimum Instruction Time : 0

Correct Marks : 5 Wrong Marks : 1

Question Key Details :

Key	Value
Comprehension	MCQ

Where is 'Borah Bazaar' located?

1. Madras
2. Bombay
3. Lucknow
4. Shimla

Options :

485584146053. 1
485584146054. 2
485584146055. 3
485584146056. 4

Question Number : 129 Question Id : 48558436514 Question Type : MCQ Option Shuffling : No Is Question Mandatory : No Calculator : None Response Time : N.A Think Time : N.A Minimum Instruction Time : 0

Correct Marks : 5 Wrong Marks : 1

Question Key Details :

Key	Value
Comprehension	MCQ

বৰা বজ্ৰাব কোন ঠাইত অৱস্থিত?

1. মাদ্ৰাজ
2. বম্বে
3. লক্ষ্ণৌ
4. ছিমলা

Options :

485584146053. 1
485584146054. 2
485584146055. 3
485584146056. 4

Question Number : 130 Question Id : 48558436515 Question Type : MCQ Option Shuffling : No Is Question Mandatory : No Calculator : None Response Time : N.A Think Time : N.A Minimum Instruction Time : 0

Correct Marks : 5 Wrong Marks : 1

Question Key Details :

Key	Value
Comprehension	MCQ

Name the historian who remarked that South Africa was "the making of Mahatma".

1. Lala Lajpat Rai
2. Bal Gangadhar Tilak
3. Chandran Devanesan
4. Abindranath Tagore

Options :

485584146057. 1
485584146058. 2
485584146059. 3
485584146060. 4

Question Number : 130 Question Id : 48558436515 Question Type : MCQ Option Shuffling : No Is Question Mandatory : No Calculator : None Response Time : N.A Think Time : N.A Minimum Instruction Time : 0

Correct Marks : 5 Wrong Marks : 1

Question Key Details :

Key	Value
Comprehension	MCQ

দক্ষিণ আফ্ৰিকাই "মহাত্মা নিৰ্মাণ" কৰা বুলি মন্তব্য কৰা বুৰঞ্জীবিদ জন কোন?

1. লালা লাজপত ৰায়
2. বাল গংগাধৰ তিলক
3. চন্দ্ৰ দেবানেচন্
4. অবিদ্ৰনাথ ঠাকুৰ

Options :

485584146057. 1
485584146058. 2
485584146059. 3
485584146060. 4

Question Number : 131 Question Id : 48558436516 Question Type : MCQ Option Shuffling : No Is Question Mandatory : No Calculator : None Response Time : N.A Think Time : N.A Minimum Instruction Time : 0

Correct Marks : 5 Wrong Marks : 1

Question Key Details :

Key	Value
Comprehension	MCQ

Who from among the following nationalist leaders belonged to the group of Moderates?

1. Bipin Chandra Pal
2. Bal Gangadhar Tilak
3. Gopal Krishna Gokhale
4. Chandrashekhhar Azad

Options :

485584146061. 1
485584146062. 2
485584146063. 3
485584146064. 4

Question Number : 131 Question Id : 48558436516 Question Type : MCQ Option Shuffling : No Is Question Mandatory : No Calculator : None Response Time : N.A Think Time : N.A Minimum Instruction Time : 0

Correct Marks : 5 Wrong Marks : 1

Question Key Details :

Key	Value
Comprehension	MCQ

কোনজন জাতীয়তাবাদী নেতাই মধ্যম দলত অৱস্থান কৰিছিল?

1. বিপিন চন্দ্ৰ পাল
2. বাল গংগাধৰ তিলক
3. গোপাল কৃষ্ণ গোখলে
4. চন্দ্ৰশেখৰ আজাদ

Options :

485584146061. 1
485584146062. 2
485584146063. 3
485584146064. 4

Question Number : 132 Question Id : 48558436517 Question Type : MCQ Option Shuffling : No Is Question Mandatory : No Calculator : None Response Time : N.A Think Time : N.A Minimum Instruction Time : 0

Correct Marks : 5 Wrong Marks : 1

Question Key Details :

Key	Value
Comprehension	MCQ

Who amongst the following were close associates of Gandhi in the years 1917-1922?

- A. Vallabhbhai Patel
- B. Subhas Chandra Bose
- C. Annie Besant
- D. Govind Ballabh Pant
- E. B.R. Ambedkar

Choose the correct answer from the options given below:

1. A, C, E only
2. A, B, E only
3. B, D, C only
4. A, B, D only

Options :

485584146065. 1
485584146066. 2
485584146067. 3
485584146068. 4

Question Number : 132 Question Id : 48558436517 Question Type : MCQ Option Shuffling : No Is Question Mandatory : No Calculator : None Response Time : N.A Think Time : N.A Minimum Instruction Time : 0

Correct Marks : 5 Wrong Marks : 1

Question Key Details :

Key	Value
-----	-------

1917-1922 বৰ্ষৰ সময়ছোৱাত কোনজন গান্ধীৰ ঘনিষ্ঠ সহযোগী আছিল?

- A. বল্লভভাই পেটেল
- B. সুভাস চন্দ্ৰ বসু
- C. এনি বেছান্ট
- D. গোবিন্দ বল্লভ পন্ট
- E. বি আৰ আশ্বেদকাৰ

তলৰ বিকল্পসমূহৰ পৰা শুদ্ধ উত্তৰটো বাছনি কৰা

- 1. কেৱল A, C, E
- 2. কেৱল A, B, E
- 3. কেৱল B, D, C
- 4. কেৱল A, B, D

Options :

- 485584146065. 1
- 485584146066. 2
- 485584146067. 3
- 485584146068. 4

Question Number : 133 Question Id : 48558436518 Question Type : MCQ Option Shuffling : No Is Question Mandatory : No Calculator : None Response Time : N.A Think Time : N.A Minimum Instruction Time : 0

Correct Marks : 5 Wrong Marks : 1

Question Key Details :

Key	Value
Comprehension	MCQ

Match List I with List II:

LIST I		LIST II	
A.	Dandi March	I.	1917
B.	Khilafat Movement	II.	1942
C.	Quit India Movement	III.	1921
D.	Champaran Movement	IV.	1930

Choose the correct answer from the options given below:

- 1. A-I, B-II, C-III, D-IV
- 2. A-II, B-IV, C-I, D-III
- 3. A-IV, B-III, C-II, D-I
- 4. A-III, B-IV, C-I, D-II

Options :

- 485584146069. 1

485584146070. 2
485584146071. 3
485584146072. 4

Question Number : 133 Question Id : 48558436518 Question Type : MCQ Option Shuffling : No Is Question Mandatory : No Calculator : None Response Time : N.A Think Time : N.A Minimum Instruction Time : 0

Correct Marks : 5 Wrong Marks : 1

Question Key Details :

Key	Value
Comprehension	MCQ

তালিকা I ৰ লগত তালিকা II মিলোৱা

তালিকা I		তালিকা II	
A.	জাতি যাত্ৰা	I.	1917
B.	খিলাফত আন্দোলন	II.	1942
C.	ভাৰত ত্যাগ আন্দোলন	III.	1921
D.	চম্পাৰণ আন্দোলন	IV.	1930

তলৰ বিকল্পসমূহৰ পৰা শুদ্ধ উত্তৰটো বাছনি কৰা

1. A-I, B-II, C-III, D-IV
2. A-II, B-IV, C-I, D-III
3. A-IV, B-III, C-II, D-I
4. A-III, B-IV, C-I, D-II

Options :

485584146069. 1
485584146070. 2
485584146071. 3
485584146072. 4

Question Number : 134 Question Id : 48558436519 Question Type : MCQ Option Shuffling : No Is Question Mandatory : No Calculator : None Response Time : N.A Think Time : N.A Minimum Instruction Time : 0

Correct Marks : 5 Wrong Marks : 1

Question Key Details :

Key	Value
Comprehension	MCQ

Chronologically arrange the following movements led by Mahatma Gandhi.

- A. Rowlatt Satyagraha
- B. Kheda Movement
- C. Champaran Satyagraha
- D. Ahmedabad Mill Strike
- E. Dandi March

Choose the correct answer from the options given below:

- 1. A, B, C, D, E
- 2. B, D, C, A, E
- 3. C, D, B, A, E
- 4. C, A, B, D, E

Options :

- 485584146073. 1
- 485584146074. 2
- 485584146075. 3
- 485584146076. 4

Question Number : 134 Question Id : 48558436519 Question Type : MCQ Option Shuffling : No Is Question Mandatory : No Calculator : None Response Time : N.A Think Time : N.A Minimum Instruction Time : 0

Correct Marks : 5 Wrong Marks : 1

Question Key Details :

Key	Value
Comprehension	MCQ

মহাত্মা গান্ধীয়ে নেতৃত্ব লোৱা তলৰ আন্দোলনসমূহ একাদিক্ৰমে সজোৱা

- A. ৰাওলাট আন্দোলন
- B. খেদা আন্দোলন
- C. চম্পাৰণ সত্যাগ্ৰহ
- D. আহমেদাবাদ মিল আন্দোলন
- E. দাণ্ডি যাত্ৰা

তলৰ বিকল্পসমূহৰ পৰা শুদ্ধ উত্তৰটো বাছনি কৰা

- 1. A, B, C, D, E
- 2. B, D, C, A, E
- 3. C, D, B, A, E
- 4. C, A, B, D, E

Options :

- 485584146073. 1
- 485584146074. 2
- 485584146075. 3

485584146076. 4

Question Number : 135 Question Id : 48558436520 Question Type : MCQ Option Shuffling : No Is Question Mandatory : No Calculator : None Response Time : N.A Think Time : N.A Minimum Instruction Time : 0

Correct Marks : 5 Wrong Marks : 1

Question Key Details :

Key	Value
Comprehension	MCQ

The 'Hindu Mahasabha' was founded in _____.

1. 1917

2. 1915

3. 1916

4. 1919

Options :

485584146077. 1

485584146078. 2

485584146079. 3

485584146080. 4

Question Number : 135 Question Id : 48558436520 Question Type : MCQ Option Shuffling : No Is Question Mandatory : No Calculator : None Response Time : N.A Think Time : N.A Minimum Instruction Time : 0

Correct Marks : 5 Wrong Marks : 1

Question Key Details :

Key	Value
Comprehension	MCQ

হিন্দু মহাসভা প্রতিষ্ঠা হৈছিল _____ চনত

1. 1917

2. 1915

3. 1916

4. 1919

Options :

485584146077. 1

485584146078. 2

485584146079. 3

485584146080. 4

Question Number : 136 Question Id : 48558436521 Question Type : MCQ Option Shuffling : No Is Question Mandatory : No Calculator : None Response Time : N.A Think Time : N.A Minimum Instruction Time : 0

Correct Marks : 5 Wrong Marks : 1

Question Key Details :

Key	Value
Comprehension	MCQ

On which date did the Constituent Assembly begin its sessions?

1. 6 December 1946
2. 9 December 1946
3. 15 July 1946
4. 16 July 1946

Options :

485584146081. 1
485584146082. 2
485584146083. 3
485584146084. 4

Question Number : 136 Question Id : 48558436521 Question Type : MCQ Option Shuffling : No Is Question Mandatory : No Calculator : None Response Time : N.A Think Time : N.A Minimum Instruction Time : 0

Correct Marks : 5 Wrong Marks : 1

Question Key Details :

Key	Value
Comprehension	MCQ

সংবিধান প্রণয়ন সভার প্রথম অধিবেশন কোন তাৰিখে আৰম্ভ হয়?

1. 6 ডিচেম্বৰ 1946
2. 9 ডিচেম্বৰ 1946
3. 15 জুলাই 1946
4. 16 জুলাই 1946

Options :

485584146081. 1
485584146082. 2
485584146083. 3
485584146084. 4

Question Number : 137 Question Id : 48558436522 Question Type : MCQ Option Shuffling : No Is Question Mandatory : No Calculator : None Response Time : N.A Think Time : N.A Minimum Instruction Time : 0

Correct Marks : 5 Wrong Marks : 1

Question Key Details :

Key	Value
Comprehension	MCQ

Match List I with List II:

LIST I		LIST II	
A.	Cultural and Educational Rights	I.	Articles 25-28
B.	Right to Equality	II.	Articles 17
C.	Freedom of Religion	III.	Article 14-16
D.	Abolition of Untouchability	IV.	Articles 29,30

Choose the correct answer from the options given below:

1. A-II, B-III, C-IV, D-I
2. A-IV, B-III, C-II, D-I
3. A-I, B-II, C-III, D-IV
4. A-IV, B-III, C-I, D-II

Options :

485584146085. 1
485584146086. 2
485584146087. 3
485584146088. 4

Question Number : 137 Question Id : 48558436522 Question Type : MCQ Option Shuffling : No Is Question Mandatory : No Calculator : None Response Time : N.A Think Time : N.A Minimum Instruction Time : 0

Correct Marks : 5 Wrong Marks : 1

Question Key Details :

Key	Value
Comprehension	MCQ

তালিকা I ৰ লগত তালিকা II মিলোৱা

তালিকা I		তালিকা II	
A.	সাংস্কৃতিক আৰু শিক্ষাৰ অধিকাৰ	I.	অনুচ্ছেদ 25-28
B.	সমতাৰ অধিকাৰ	II.	অনুচ্ছেদ 17
C.	ধৰ্মৰ স্বাধীনতা	III.	অনুচ্ছেদ 14-16
D.	অস্পৃশ্যতা নিৰ্মূলকৰণ	IV.	অনুচ্ছেদ 29,30

তলৰ বিকল্পসমূহৰ পৰা শুদ্ধ উত্তৰটো বাছনি কৰা

1. A-II, B-III, C-IV, D-I
2. A-IV, B-III, C-II, D-I
3. A-I, B-II, C-III, D-IV
4. A-IV, B-III, C-I, D-II

Options :

485584146085. 1
485584146086. 2
485584146087. 3

485584146088. 4

Question Number : 138 Question Id : 48558436523 Question Type : MCQ Option Shuffling : No Is Question Mandatory : No Calculator : None Response Time : N.A Think Time : N.A Minimum Instruction Time : 0

Correct Marks : 5 Wrong Marks : 1

Question Key Details :

Key	Value
Comprehension	MCQ

Who were the two other lawyers serving with B.R. Ambedkar on the Drafting Committee of the Constitution?

- A. K.M. Munshi
- B. B.N Rau
- C. Alladi Krishnaswamy Aiyar
- D. S.N. Mukherjee
- E. Rajendra Prasad

Choose the correct answer from the options given below:

- 1. A, B only
- 2. B, C only
- 3. A, C only
- 4. D, E only

Options :

- 485584146089. 1
- 485584146090. 2
- 485584146091. 3
- 485584146092. 4

Question Number : 138 Question Id : 48558436523 Question Type : MCQ Option Shuffling : No Is Question Mandatory : No Calculator : None Response Time : N.A Think Time : N.A Minimum Instruction Time : 0

Correct Marks : 5 Wrong Marks : 1

Question Key Details :

Key	Value
Comprehension	MCQ

সংবিধানৰ খচৰা প্ৰস্তুত কৰিছিল বি আৰ আন্দোলনকাৰীৰ লগত কোন দুজন আইনবিদ আছিল ?

- A. কে. এম. মুন্সি
- B. বি.এন. ষাণ্ড
- C. আলাদী কৃষ্ণস্বামী আয়াৰ
- D. এছ. এন. মুখাৰ্জী
- E. ৰাজেন্দ্ৰ প্ৰসাদ

তলৰ বিকল্পসমূহৰ পৰা শুদ্ধ উত্তৰটো বাছনি কৰা

- 1. কেৱল A আৰু B
- 2. কেৱল B আৰু C
- 3. কেৱল A আৰু C
- 4. কেৱল D আৰু E

Options :

- 485584146089. 1
- 485584146090. 2
- 485584146091. 3
- 485584146092. 4

Question Number : 139 Question Id : 48558436524 Question Type : MCQ Option Shuffling : No Is Question Mandatory : No Calculator : None Response Time : N.A Think Time : N.A Minimum Instruction Time : 0

Correct Marks : 5 Wrong Marks : 1

Question Key Details :

Key	Value
Comprehension	MCQ

Arrange the following in a chronological order:

- A. Constituent Assembly begins its session.
- B. Muslim League accepts Cabinet Mission's constitutional scheme.
- C. Muslim League decides to join the Interim Government.
- D. Muslim League announces Direct Action Day.
- E. Muslim League demands dissolution of the Constituent Assembly.

Choose the correct answer from the options given below:

- 1. B, D, C, A, E
- 2. B, A, D, C, E
- 3. A, B, C, D, E
- 4. D, A, E, B, C

Options :

- 485584146093. 1
- 485584146094. 2
- 485584146095. 3

485584146096. 4

Question Number : 139 Question Id : 48558436524 Question Type : MCQ Option Shuffling : No Is Question Mandatory :
No Calculator : None Response Time : N.A Think Time : N.A Minimum Instruction Time : 0

Correct Marks : 5 Wrong Marks : 1

Question Key Details :

Key	Value
Comprehension	MCQ

একাধিকমে সজোৱা

- A. সংবিধান প্ৰণয়ন সভাই অধিবেশন আৰম্ভ কৰে
- B. মুছলিম লীগে কেবিনেট মিছনৰ সাংবিধানিক আচনি গ্ৰহণ কৰে।
- C. মুছলিম লীগে আন্তঃকালীন চৰকাৰত যোগদান কৰিবলৈ সিদ্ধান্ত লয়।
- D. মুছলিম লীগে প্ৰত্যক্ষ সংগ্ৰাম দিৱস ঘোষণা কৰে।
- E. মুছলিম লীগে সংবিধান প্ৰণয়ন সদন বন্ধৰ দাবী উত্থাপন কৰে।

তলৰ বিকল্পসমূহৰ পৰা শুদ্ধ উত্তৰটো বাছনি কৰা

- 1. B, D, C, A, E
- 2. B, A, D, C, E
- 3. A, B, C, D, E
- 4. D, A, E, B, C

Options :

- 485584146093. 1
- 485584146094. 2
- 485584146095. 3
- 485584146096. 4

Question Number : 140 Question Id : 48558436525 Question Type : MCQ Option Shuffling : No Is Question Mandatory :
No Calculator : None Response Time : N.A Think Time : N.A Minimum Instruction Time : 0

Correct Marks : 5 Wrong Marks : 1

Question Key Details :

Key	Value
Comprehension	MCQ

Which of the following statements are **True** for the Constituent Assembly?

- A. It was boycotted by the Muslim League.
- B. It was elected by Universal Franchise.
- C. Its members were chosen by Provincial Legislatures.
- D. Majority of its members belonged to the Socialist Party.
- E. Constituent Assembly was dominated by three parties.

Choose the **correct** answer from the options given below:

- 1. A, E only
- 2. B, D only
- 3. A, C only
- 4. B, E only

Options :

- 485584146097. 1
- 485584146098. 2
- 485584146099. 3
- 485584146100. 4

Question Number : 140 Question Id : 48558436525 Question Type : MCQ Option Shuffling : No Is Question Mandatory : No Calculator : None Response Time : N.A Think Time : N.A Minimum Instruction Time : 0

Correct Marks : 5 Wrong Marks : 1

Question Key Details :

Key	Value
Comprehension	MCQ

সংবিধান প্রস্তুতকাৰী সভা সম্পৰ্কে কোনবোৰ বাক্য শুদ্ধ বুলি কোৱা হয়?

- A. মুছলিম লীগে ইয়াক বৰ্জন কৰিছিল।
- B. সাৰ্বজনীন ভোটাধিকাৰ যোগে ইয়াক নিৰ্বাচন কৰিছিল।
- C. ইয়াৰ সদস্যসকলক প্ৰাদেশিক বিধানমণ্ডলৰ দ্বাৰা নিৰ্বাচিত কৰা হৈছিল।
- D. ইয়াৰ বেছিভাগ সদস্য সমাজবাদী পাৰ্টিৰ।
- E. তিনিটা দলে সংবিধান প্ৰস্তুতকাৰী কমিটিত প্ৰভাৱ বিস্তাৰ কৰিছিল।

তলত দিয়াসমূহৰ পৰা শুদ্ধ উত্তৰ বাছি উলিওৱা

- 1. কেৱল A আৰু E
- 2. কেৱল B আৰু D
- 3. কেৱল A আৰু C
- 4. কেৱল B আৰু E

Options :

- 485584146097. 1
- 485584146098. 2

485584146099. 3

485584146100. 4

Sub-Section Number : 2
Sub-Section Id : 4855842697
Question Shuffling Allowed : No
Is Section Default? : null

Question Number : 141 Question Id : 48558436526 Question Type : MCQ Option Shuffling : No Is Question Mandatory : No Calculator : None Response Time : N.A Think Time : N.A Minimum Instruction Time : 0

Correct Marks : 5 Wrong Marks : 1

Question Key Details :

Key	Value
Comprehension	Comp1

Read the passage and answer the questions :

According to Buddhist philosophy, the world is transient (anicca) and constantly changing; it is also soulless (anatta) as there is nothing permanent or eternal in it. Within this transient world, sorrow (dukkha) is intrinsic to human existence. It is by following the path of moderation between severe penance and self indulgence that human beings can rise above these worldly troubles. In the earliest forms of Buddhism whether or not god existed was irrelevant.

Which of the following statement is **NOT True** regarding the Buddhist philosophy?

1. The world is transient and constantly changing.
2. Sorrow is intrinsic to human existence.
3. Humans can rise above sorrow by following the path of severe penance and self-indulgence.
4. The world is soulless as there is nothing permanent or eternal in it.

Options :

485584146101. 1

485584146102. 2

485584146103. 3

485584146104. 4

Question Number : 141 Question Id : 48558436526 Question Type : MCQ Option Shuffling : No Is Question Mandatory : No Calculator : None Response Time : N.A Think Time : N.A Minimum Instruction Time : 0

Correct Marks : 5 Wrong Marks : 1

Question Key Details :

Key	Value
Comprehension	Comp1

বৌদ্ধ ধর্মৰ দৰ্শন মতে পৃথিৱীখন ক্ষণস্থায়ী- ই সঘনে সলনি হৈ থাকে, ই আত্মাহীন অৰ্থাৎ স্থায়ী বা অন্তহীন বুলি একো বস্তু নাই। এই ক্ষণস্থায়ী পৃথিৱীখনত মানৱ জীৱনৰ দুখ স্বাভাৱিক। শান্তিৰ পথেৰে কঠোৰ তপস্যা আৰু আত্মসংযমৰ দ্বাৰা মানুহে দুখ অতিক্ৰম কৰিব পাৰে। বৌদ্ধধৰ্মৰ প্ৰথম অৱস্থাত ভগৱান থকা নথকাটো অপ্ৰাসংগিক।

বৌদ্ধধৰ্মৰ দৰ্শন মতে তলৰ কোনটো শুদ্ধ নহয়?

1. পৃথিৱীখন ক্ষণস্থায়ী আৰু সঘনে সলনি হৈ থাকে
2. মানুহৰ জীৱনত দুখ স্বাভাৱিক
3. মানুহে কঠোৰ তপস্যা আৰু আত্ম সংযমৰ দ্বাৰাহে দুখ অতিক্ৰম কৰিব পাৰে
4. পৃথিৱীখন আত্মহীন কাৰণ ইয়াত স্থায়ী আৰু অন্তহীন বুলি একো নাই

Options :

485584146101. 1
485584146102. 2
485584146103. 3
485584146104. 4

Question Number : 142 Question Id : 48558436527 Question Type : MCQ Option Shuffling : No Is Question Mandatory : No Calculator : None Response Time : N.A Think Time : N.A Minimum Instruction Time : 0

Correct Marks : 5 Wrong Marks : 1

Question Key Details :

Key	Value
Comprehension	Comp1

Read the passage and answer the questions :

According to Buddhist philosophy, the world is transient (anicca) and constantly changing; it is also soulless (anatta) as there is nothing permanent or eternal in it. Within this transient world, sorrow (dukkha) is intrinsic to human existence. It is by following the path of moderation between severe penance and self indulgence that human beings can rise above these worldly troubles. In the earliest forms of Buddhism whether or not god existed was irrelevant.

Which of the following idea is **NOT** a part of the teachings of the Buddha?

1. Importance of right conduct and values.
2. Claims of superiority based on birth.
3. Metta (fellow feeling).
4. Karuna (compassion).

Options :

485584146105. 1
485584146106. 2
485584146107. 3
485584146108. 4

Question Number : 142 Question Id : 48558436527 Question Type : MCQ Option Shuffling : No Is Question Mandatory : No Calculator : None Response Time : N.A Think Time : N.A Minimum Instruction Time : 0

Correct Marks : 5 Wrong Marks : 1

Question Key Details :

Key	Value
Comprehension	Comp1

বৌদ্ধ ধৰ্মৰ দৰ্শন মতে পৃথিৱীখন ক্ষণস্থায়ী- ই সঘনে সলনি হৈ থাকে, ই আত্মাহীন অৰ্থাৎ স্থায়ী বা অন্তহীন বুলি একো বস্তু নাই। এই ক্ষণস্থায়ী পৃথিৱীখনত মানৱ জীৱনৰ দুখ স্বাভাৱিক। শান্তিৰ পথেৰে কঠোৰ তপস্যা আৰু আত্মসংযমৰ দ্বাৰা মানুহে দুখ অতিক্ৰম কৰিব পাৰে। বৌদ্ধধৰ্মৰ প্ৰথম অৱস্থাত ভগৱান থকা নথকাটো অপ্ৰাসংগিক।

তলৰ কোনটো বুদ্ধৰ আদৰ্শৰ বাহিৰত?

1. শুদ্ধ আচৰণ আৰু মূল্যৰ গুৰুত্ব
2. জন্মসূত্ৰে উচ্চখাপৰ বুলি দাবী কৰা
3. মেটা (বন্ধু ভাব)
4. কৰুণা

Options :

485584146105. 1
485584146106. 2
485584146107. 3
485584146108. 4

Question Number : 143 Question Id : 48558436528 Question Type : MCQ Option Shuffling : No Is Question Mandatory : No Calculator : None Response Time : N.A Think Time : N.A Minimum Instruction Time : 0

Correct Marks : 5 Wrong Marks : 1

Question Key Details :

Key	Value
Comprehension	Comp1

Read the passage and answer the questions :

According to Buddhist philosophy, the world is transient (anicca) and constantly changing; it is also soulless (anatta) as there is nothing permanent or eternal in it. Within this transient world, sorrow (dukkha) is intrinsic to human existence. It is by following the path of moderation between severe penance and self indulgence that human beings can rise above these worldly troubles. In the earliest forms of Buddhism whether or not god existed was irrelevant.

In Buddhism, the followers of the older tradition, who followed the old path and respected teachers, described themselves as:

1. Theravadins
2. Mahayanas
3. Taravadins
4. Tantrics

Options :

485584146109. 1
485584146110. 2
485584146111. 3
485584146112. 4

Question Number : 143 Question Id : 48558436528 Question Type : MCQ Option Shuffling : No Is Question Mandatory : No Calculator : None Response Time : N.A Think Time : N.A Minimum Instruction Time : 0

Correct Marks : 5 Wrong Marks : 1

Question Key Details :

Key	Value
Comprehension	Comp1

বৌদ্ধ ধৰ্মৰ দৰ্শন মতে পৃথিৱীখন ক্ষণস্থায়ী- ই সমানে সলনি হৈ থাকে, ই আত্মাহীন অৰ্থাৎ স্থায়ী বা অন্তহীন বুলি একো বস্তু নাই। এই ক্ষণস্থায়ী পৃথিৱীখনত মানৱ জীৱনৰ দুখ স্বাভাৱিক। শান্তিৰ পথেৰে কঠোৰ তপস্যা আৰু আত্মসংযমৰ দ্বাৰা মানুহে দুখ অতিক্ৰম কৰিব পাৰে। বৌদ্ধধৰ্মৰ প্ৰথম অৱস্থাত ভগৱান থকা নথকাটো অপ্ৰাসংগিক।

বৌদ্ধ ধৰ্মত পূৰ্ব প্ৰচলিত নীতি নিয়মৰ অনুগামীসকলে যিয়ে পুৰনি পথ

অনুসৰণ কৰে আৰু গুৰুসকলৰ সন্মান কৰে তেওঁ লোকে নিজকে কি বুলি কৈছিল ?

1. ধেৰাৱাদিনচ
2. মহাঘান
3. তাৰাবাদিনচ
4. তাল্লিক

Options :

485584146109. 1
485584146110. 2
485584146111. 3
485584146112. 4

Question Number : 144 Question Id : 48558436529 Question Type : MCQ Option Shuffling : No Is Question Mandatory : No Calculator : None Response Time : N.A Think Time : N.A Minimum Instruction Time : 0

Correct Marks : 5 Wrong Marks : 1

Question Key Details :

Key	Value
Comprehension	Comp1

Read the passage and answer the questions :

According to Buddhist philosophy, the world is transient (anicca) and constantly changing; it is also soulless (anatta) as there is nothing permanent or eternal in it. Within this transient world, sorrow (dukkha) is intrinsic to human existence. It is by following the path of moderation between severe penance and self indulgence that human beings can rise above these worldly troubles. In the earliest forms of Buddhism whether or not god existed was irrelevant.

Where did Gautama Buddha attain 'nibbana'?

1. Lumbini
2. Rajgriha
3. Sarnath
4. Kusinagara

Options :

485584146113. 1
485584146114. 2
485584146115. 3
485584146116. 4

Question Number : 144 Question Id : 48558436529 Question Type : MCQ Option Shuffling : No Is Question Mandatory : No Calculator : None Response Time : N.A Think Time : N.A Minimum Instruction Time : 0

Correct Marks : 5 Wrong Marks : 1

Question Key Details :

Key	Value
Comprehension	Comp1

বৌদ্ধ ধর্মৰ দৰ্শন মতে পৃথিৱীখন ক্ষণস্থায়ী- ই সঘনে সলনি হৈ থাকে, ই আত্মাহীন অর্থাৎ স্থায়ী বা অন্তহীন বুলি একো বস্তু নাই। এই ক্ষণস্থায়ী পৃথিৱীখনত মানৱ জীৱনৰ দুখ স্বাভাৱিক। শান্তিৰ পথেৰে কঠোৰ তপস্যা আৰু আত্মসংযমৰ দ্বাৰা মানুহে দুখ অতিক্ৰম কৰিব পাৰে। বৌদ্ধধর্মৰ প্ৰথম অৱস্থাত ভগৱান থকা নথকাটো অপ্ৰাসংগিক।

গৌতম বুদ্ধই কোন ঠাইত নিৰ্বান আহৰণ কৰিছিল?

1. লুম্বিনী
2. ৰাজগৃহ
3. সাৰনাথ
4. কুশীনগৰ

Options :

485584146113. 1
485584146114. 2

485584146115. 3

485584146116. 4

Question Number : 145 Question Id : 48558436530 Question Type : MCQ Option Shuffling : No Is Question Mandatory : No Calculator : None Response Time : N.A Think Time : N.A Minimum Instruction Time : 0

Correct Marks : 5 Wrong Marks : 1

Question Key Details :

Key	Value
Comprehension	Comp1

Read the passage and answer the questions :

According to Buddhist philosophy, the world is transient (anicca) and constantly changing; it is also soulless (anatta) as there is nothing permanent or eternal in it. Within this transient world, sorrow (dukkha) is intrinsic to human existence. It is by following the path of moderation between severe penance and self indulgence that human beings can rise above these worldly troubles. In the earliest forms of Buddhism whether or not god existed was irrelevant.

Which of the following statements are **True** about the teachings of Buddha?

- A. The Buddha regarded the social world as of divine origin.
- B. The Buddha advised kings and gahapatis to be humane and ethical.
- C. The Buddha believed that collective effort was required to transform social relations.
- D. The Buddha emphasised individual agency and righteous action to escape from the cycle of birth.
- E. The Buddha asserted that the extinguishing of ego and desire would end the cycle of suffering.

Choose the **correct** answer from the options given below:

- 1. C, D, E only
- 2. B, C, D only
- 3. A, B, D only
- 4. B, D, E only

Options :

485584146117. 1

485584146118. 2

485584146119. 3

485584146120. 4

Question Number : 145 Question Id : 48558436530 Question Type : MCQ Option Shuffling : No Is Question Mandatory : No Calculator : None Response Time : N.A Think Time : N.A Minimum Instruction Time : 0

Correct Marks : 5 Wrong Marks : 1

Question Key Details :

Key	Value
Comprehension	Comp1

বৌদ্ধ ধৰ্মৰ দৰ্শন মতে পৃথিৱীখন ক্ষণস্থায়ী- ই সঘনে সলনি হৈ থাকে, ই আত্মাহীন অৰ্থাৎ স্থায়ী বা অন্তহীন বুলি একো বস্তু নাই। এই ক্ষণস্থায়ী পৃথিৱীখনত মানৱ জীৱনৰ দুখ স্বাভাৱিক। শান্তিৰ পথেৰে কঠোৰ তপস্যা আৰু আত্মসংযমৰ দ্বাৰা মানুহে দুখ অতিক্ৰম কৰিব পাৰে। বৌদ্ধধৰ্মৰ প্ৰথম অৱস্থাত ভগৱান থকা নথকাটো অপ্ৰাসংগিক।

বুদ্ধৰ নীতি-শিক্ষা সম্পৰ্কে তলৰ কোনটো শুদ্ধ?

- A. সামাজিক জগতখন বুদ্ধই ভগৱান প্ৰদত্ত বুলি গন্য কৰে।
- B. বুদ্ধই বজা আৰু গনপতিবিলাকক দয়ালু হ'বলৈ উপদেশ দিছিল।
- C. বুদ্ধই বিশ্বাস কৰিছিল যে সামাজিক সম্পৰ্ক ৰূপান্তৰ কৰিবলৈ সামূহিক প্ৰচেষ্টাৰ প্ৰয়োজন।
- D. বুদ্ধই জন্ম চক্ৰৰ পৰা পৰিত্ৰাণ পাবলৈ সঠিক কৰ্ম তথা ব্যক্তিগত বিচাৰৰ ওপৰত জোৰ দিছিল।
- E. বুদ্ধই কৈছিল যে অহংকাৰ তথা বাসনাৰ অন্ত পৰিলেই দুখৰ চক্ৰৰ পৰা পৰিত্ৰাণ লাভ কৰিব

ভুলত দিয়াসমূহৰ পৰা শুদ্ধ উত্তৰ বাছি উলিওৱা

- 1. কেৱল C, D, E
- 2. কেৱল B, C, D
- 3. কেৱল A, B, D
- 4. কেৱল B, D, E

Options :

- 485584146117. 1
- 485584146118. 2
- 485584146119. 3
- 485584146120. 4

Sub-Section Number :

3

Sub-Section Id :

4855842698

Question Shuffling Allowed :

No

Is Section Default? :

null

Question Number : 146 Question Id : 48558436531 Question Type : MCQ Option Shuffling : No Is Question Mandatory : No Calculator : None Response Time : N.A Think Time : N.A Minimum Instruction Time : 0

Correct Marks : 5 Wrong Marks : 1

Question Key Details :

Key	Value
Comprehension	Comp2

Read the passage and answer the questions :

Section I - Regarding Zemindars. It is evident that the British Government in making zemindary settlement have imposed exorbitant *Jumas* (revenue demand) and have disgraced and ruined several Zemindars by putting up their estates for public auction for arrears of rent, in so much, in the institution of a suit by a common Ryot, a maid servant or a slave, the respectable Zemindars are summoned into court, arrested, put in goal and disgraced. In litigation regarding Zemindaries, the immense value of stamps, and other unnecessary expenses of the civil courts,... are all calculated to impoverish the litigants. Besides this, the coffers of the Zemindars are annually taxed with the subscription for schools, hospitals, roads, etc. Such extortions will have no manner of existence in the Badshahi Government; but on the contrary the *Jumas* will be light, the dignity and honour of the Zemindars safe, and every Zemindar will have absolute rule in his own Zemindary...

This excerpt has been taken from:

1. Bijnaur Proclamation of 1857
2. Kanpur Proclamation of 1857
3. Azamgarh Proclamation of 1857
4. Lucknow Proclamation of 1857

Options :

- 485584146121. 1
- 485584146122. 2
- 485584146123. 3
- 485584146124. 4

Question Number : 146 Question Id : 48558436531 Question Type : MCQ Option Shuffling : No Is Question Mandatory : No Calculator : None Response Time : N.A Think Time : N.A Minimum Instruction Time : 0

Correct Marks : 5 Wrong Marks : 1

Question Key Details :

Key	Value
Comprehension	Comp2

পাঠটো পঢ়ি তলৰ প্ৰশ্নবোৰৰ উত্তৰ লিখা।

ধাৰা-1 (জমিদাৰ সম্পৰ্কে)

এইটো স্পষ্ট যে জমিদাৰী বন্দোবস্তৰ নামত বৃটিছ চৰকাৰে জমিদাৰসকলক নানা ধৰণে অত্যাচাৰ কৰিছিল। চৰকাৰে আৰোপ কৰা অত্যাধিক ৰাজহ দিবলৈ গৈ বহু জমিদাৰ সৰ্বস্বাস্ত হৈছিল। তেওঁলোকৰ মাটি সম্পত্তি নিলামত বিক্ৰী কৰি অতিৰিক্ত ভাড়াৰ বকেয়া আদায় কৰা হৈছিল।

সাধাৰণ খেতিয়ক বা ঘৰত নিয়োগ কৰা কৰ্মীৰ দৰেই জমিদাৰ সকলক আদালতৰ কাগজ দি মাতি নিয়া হৈছিল। গেষ্টাৰ কৰা হৈছিল আৰু তাৰ ফলত তেওঁলোকৰ মান-সন্মানত আঘাত দিয়া হৈছিল। গোচৰৰ নামত তেওঁলোকৰ পৰা অসামৰিক আদালতত অধিক অথবা অপ্ৰয়োজনীয় মাচুল লোৱাৰ লগতে অত্যাধিক মূল্যত জুপি দিয়া হৈছিল। ইয়াৰ ফলত গোচৰীয়া হিচাপেও জমিদাৰ সকলক শক্তিশীল কৰা হৈছিল। জমিদাৰ সকলৰ ধনৰ টোপোলাৰ ওপৰত বুজন পৰিমাণৰ কৰ জুপি দিয়া হৈছিল। এনে কাৰ্য বাদশ্বাহী চৰকাৰৰ দিনত নাছিল বুলি ক'ব পাৰি। বৰং কৰৰ পৰিমাণ নামমাত্ৰ আছিল। জমিদাৰী প্ৰথাত জমিদাৰেই মুখ্য ভূমিকা পালন কৰিছিল।

এই অংশটো কৰ পৰা লোৱা হৈছে:

1. বিজনাউৰ চুক্তিপত্ৰ, 1857
2. কানপুৰ চুক্তিপত্ৰ, 1857
3. আজমগড় চুক্তিপত্ৰ, 1857
4. লক্ষণৌ ঘোষণাপত্ৰ 1857

Options :

485584146121. 1
485584146122. 2
485584146123. 3
485584146124. 4

Question Number : 147 Question Id : 48558436532 Question Type : MCQ Option Shuffling : No Is Question Mandatory : No Calculator : None Response Time : N.A Think Time : N.A Minimum Instruction Time : 0

Correct Marks : 5 Wrong Marks : 1

Question Key Details :

Key	Value
Comprehension	Comp2

Read the passage and answer the questions :

Section I - Regarding Zemindars. It is evident that the British Government in making zemindary settlement have imposed exorbitant *Jumas* (revenue demand) and have disgraced and ruined several Zemindars by putting up their estates for public auction for arrears of rent, in so much, in the institution of a suit by a common Ryot, a maid servant or a slave, the respectable Zemindars are summoned into court, arrested, put in goal and disgraced. In litigation regarding Zemindaries, the immense value of stamps, and other unnecessary expenses of the civil courts,... are all calculated to impoverish the litigants. Besides this, the coffers of the Zemindars are annually taxed with the subscription for schools, hospitals, roads, etc. Such extortions will have no manner of existence in the Badshahi Government; but on the contrary the *Jumas* will be light, the dignity and honour of the Zemindars safe, and every Zemindar will have absolute rule in his own Zemindary...

"Section I" of the Proclamation addresses to which class?

1. Service gentry class
2. Land holding class
3. Merchant-commercial class
4. Artisans and peasants

Options :

- 485584146125. 1
- 485584146126. 2
- 485584146127. 3
- 485584146128. 4

Question Number : 147 Question Id : 48558436532 Question Type : MCQ Option Shuffling : No Is Question Mandatory : No Calculator : None Response Time : N.A Think Time : N.A Minimum Instruction Time : 0

Correct Marks : 5 Wrong Marks : 1

Question Key Details :

Key	Value
Comprehension	Comp2

পাঠটো পঢ়ি তলৰ প্ৰশ্নবোৰৰ উত্তৰ লিখা।

ধাৰা-1 (জমিদাৰ সম্পৰ্কে)

এইটো স্পষ্ট যে জমিদাৰী বন্দোবস্তৰ নামত বৃটিছ চৰকাৰে জমিদাৰসকলক নানা ধৰণে অত্যাচাৰ কৰিছিল। চৰকাৰে আৰোপ কৰা অত্যাধিক ৰাজহ দিবলৈ গৈ বহু জমিদাৰ সৰ্বস্বাস্ত হৈছিল। তেওঁলোকৰ মাটি সম্পত্তি নিলামত বিক্ৰী কৰি অতিৰিক্ত ভাড়াৰ বকেয়া আদায় কৰা হৈছিল।

সাধাৰণ খেতিয়ক বা ঘৰত নিয়োগ কৰা কৰ্মীৰ দৰেই জমিদাৰ সকলক আদালতৰ কাগজ দি মাতি নিয়া হৈছিল। গেষ্টাৰ কৰা হৈছিল আৰু তাৰ ফলত তেওঁলোকৰ মান-সন্মানত আঘাত দিয়া হৈছিল। গোচৰৰ নামত তেওঁলোকৰ পুৰা অসামৰিক আদালতত অধিক অথবা অপ্ৰয়োজনীয় মাচুল লোৱাৰ লগতে অত্যাধিক মূল্যত জাপি দিয়া হৈছিল। ইয়াৰ ফলত গোচৰীয়া হিচাপেও জমিদাৰ সকলক শক্তিশীল কৰা হৈছিল। জমিদাৰ সকলৰ ধনৰ টোপোলাৰ ওপৰত বুজন পৰিমাণৰ কৰ জাপি দিয়া হৈছিল। এনে কাৰ্য বাদশ্বাহী চৰকাৰৰ দিনত নাছিল বুলি ক'ব পাৰি। বৰং কৰৰ পৰিমাণ নামমাত্ৰ আছিল। জমিদাৰী প্ৰথাৰ জমিদাৰেই মুখ্য ভূমিকা পালন কৰিছিল।

ঘোষণাপত্ৰৰ "1 নং ধাৰাত" কোনটো শ্ৰেণী লোকসকলক উদ্দেশ্য কৰা কৈছে?

1. মধ্যবিত্ত চাকৰিয়াল
2. মাটিৰ মালিক
3. সদাগৰ বণিক শ্ৰেণী
4. কৰিকৰ আৰু খেতিয়ক

Options :

485584146125. 1
485584146126. 2
485584146127. 3
485584146128. 4

Question Number : 148 Question Id : 48558436533 Question Type : MCQ Option Shuffling : No Is Question Mandatory : No Calculator : None Response Time : N.A Think Time : N.A Minimum Instruction Time : 0

Correct Marks : 5 Wrong Marks : 1

Question Key Details :

Key	Value
Comprehension	Comp2

Read the passage and answer the questions :

Section I - Regarding Zemindars. It is evident that the British Government in making zemindary settlement have imposed exorbitant *Jumas* (revenue demand) and have disgraced and ruined several Zemindars by putting up their estates for public auction for arrears of rent, in so much, in the institution of a suit by a common Ryot, a maid servant or a slave, the respectable Zemindars are summoned into court, arrested, put in goal and disgraced. In litigation regarding Zemindaries, the immense value of stamps, and other unnecessary expenses of the civil courts,... are all calculated to impoverish the litigants. Besides this, the coffers of the Zemindars are annually taxed with the subscription for schools, hospitals, roads, etc. Such extortions will have no manner of existence in the Badshahi Government; but on the contrary the *Jumas* will be light, the dignity and honour of the Zemindars safe, and every Zemindar will have absolute rule in his own Zemindary...

Which of the difficulties and miseries of the zamindars have **NOT** been addressed in the Proclamation?

1. Absolute maximising of land tax.
2. Loss of social prestige.
3. Financial burden of the litigation.
4. Backwardness in communication and transportation.

Options :

- 485584146129. 1
- 485584146130. 2
- 485584146131. 3
- 485584146132. 4

Question Number : 148 Question Id : 48558436533 Question Type : MCQ Option Shuffling : No Is Question Mandatory : No Calculator : None Response Time : N.A Think Time : N.A Minimum Instruction Time : 0

Correct Marks : 5 Wrong Marks : 1

Question Key Details :

Key	Value
Comprehension	Comp2

পাঠটো পঢ়ি তলৰ প্ৰশ্নবোৰৰ উত্তৰ লিখা।

ধাৰা-1 (জমিদাৰ সম্পৰ্কে)

এইটো স্পষ্ট যে জমিদাৰী বন্দোবস্তৰ নামত বৃটিছ চৰকাৰে জমিদাৰসকলক নানা ধৰণে অত্যাচাৰ কৰিছিল। চৰকাৰে আৰোপ কৰা অত্যাধিক ৰাজহ দিবলৈ গৈ বহু জমিদাৰ সৰ্বস্বাস্ত হৈছিল। তেওঁলোকৰ মাটি সম্পত্তি নিলামত বিক্ৰী কৰি অতিৰিক্ত ভাড়াৰ বকেয়া আদায় কৰা হৈছিল।

সাধাৰণ খেতিয়ক বা ঘৰত নিয়োগ কৰা কৰ্মীৰ দৰেই জমিদাৰ সকলক আদালতৰ কাগজ দি মাতি নিয়া হৈছিল। গেষ্টাৰ কৰা হৈছিল আৰু তাৰ ফলত তেওঁলোকৰ মান-সন্মানত আঘাত দিয়া হৈছিল। গোচৰৰ নামত তেওঁলোকৰ পুৰা অসামৰিক আদালতত অধিক অথবা অপ্ৰয়োজনীয় মাচুল লোৱাৰ লগতে অত্যাধিক মূল্যত জাপি দিয়া হৈছিল। ইয়াৰ ফলত গোচৰীয়া হিচাপেও জমিদাৰ সকলক শক্তিশীল কৰা হৈছিল। জমিদাৰ সকলৰ ধনৰ টোপোলাৰ ওপৰত বুজন পৰিমাণৰ কৰ জাপি দিয়া হৈছিল। এনে কাৰ্য বাদশ্বাহী চৰকাৰৰ দিনত নাছিল বুলি ক'ব পাৰি। বৰং কৰৰ পৰিমাণ নামমাত্ৰ আছিল। জমিদাৰী প্ৰথাৰ জমিদাৰেই মুখ্য ভূমিকা পালন কৰিছিল।

ঘোষণাপত্ৰখনত জমিদাৰ বিলাকৰ কোনটো সমস্যা বা অসুবিধা অন্তৰ্ভুক্ত কৰা হোৱা নাছিল?

1. ভূমিকৰ সৰ্বোচ্চ কৰা
2. সামাজিক সন্মান হানি
3. মোকদ্দমাৰ নামত বিত্তীয় বোজা
4. পিছপৰা ষোগাযোগ আৰু পৰিবহন ব্যৱস্থা

Options :

485584146129. 1
485584146130. 2
485584146131. 3
485584146132. 4

Question Number : 149 Question Id : 48558436534 Question Type : MCQ Option Shuffling : No Is Question Mandatory : No Calculator : None Response Time : N.A Think Time : N.A Minimum Instruction Time : 0

Correct Marks : 5 Wrong Marks : 1

Question Key Details :

Key	Value
Comprehension	Comp2

Read the passage and answer the questions :

Section I - Regarding Zemindars. It is evident that the British Government in making zemindary settlement have imposed exorbitant *Jumas* (revenue demand) and have disgraced and ruined several Zemindars by putting up their estates for public auction for arrears of rent, in so much, in the institution of a suit by a common Ryot, a maid servant or a slave, the respectable Zemindars are summoned into court, arrested, put in goal and disgraced. In litigation regarding Zemindaries, the immense value of stamps, and other unnecessary expenses of the civil courts,... are all calculated to impoverish the litigants. Besides this, the coffers of the Zemindars are annually taxed with the subscription for schools, hospitals, roads, etc. Such extortions will have no manner of existence in the Badshahi Government; but on the contrary the *Jumas* will be light, the dignity and honour of the Zemindars safe, and every Zemindar will have absolute rule in his own Zemindary...

The alternative rule of 'Badshahi Government' proposed by the rebels in this proclamation refers to _____

1. The rule of the king of England.
2. The royal nature of the company state.
3. The rule of India's traditional aristocratic class, such as of Bahadur Shah Zafar.
4. The rule established by the rebels based on the ordinary people of India.

Options :

485584146133. 1
485584146134. 2
485584146135. 3
485584146136. 4

Question Number : 149 Question Id : 48558436534 Question Type : MCQ Option Shuffling : No Is Question Mandatory : No Calculator : None Response Time : N.A Think Time : N.A Minimum Instruction Time : 0

Correct Marks : 5 Wrong Marks : 1

Question Key Details :

Key	Value
Comprehension	Comp2

পাঠটো পঢ়ি তলৰ প্ৰশ্নবোৰৰ উত্তৰ লিখা।

ধাৰা-1 (জমিদাৰ সম্পৰ্কে)

এইটো স্পষ্ট যে জমিদাৰী বন্দোবস্তৰ নামত বৃটিছ চৰকাৰে জমিদাৰসকলক নানা ধৰণে অত্যাচাৰ কৰিছিল। চৰকাৰে আৰোপ কৰা অত্যাধিক ৰাজহ দিবলৈ গৈ বহু জমিদাৰ সৰ্বস্বাস্ত হৈছিল। তেওঁলোকৰ মাটি সম্পত্তি নিলামত বিক্ৰী কৰি অতিৰিক্ত ভাড়াৰ বকেয়া আদায় কৰা হৈছিল।

সাধাৰণ খেতিয়ক বা ঘৰত নিয়োগ কৰা কৰ্মীৰ দৰেই জমিদাৰ সকলক আদালতৰ কাগজ দি মাতি নিয়া হৈছিল। গেষ্টাৰ কৰা হৈছিল আৰু তাৰ ফলত তেওঁলোকৰ মানু-সন্মানত আঘাত দিয়া হৈছিল। গোচৰৰ নামত তেওঁলোকৰ পুৰা অসামৰিক আদালতত অধিক অথবা অপ্ৰয়োজনীয় মাচুল লোৱাৰ লগতে অত্যাধিক মূল্যত জাপি দিয়া হৈছিল। ইয়াৰ ফলত গোচৰীয়া হিচাপেও জমিদাৰ সকলক শক্তিহীন কৰা হৈছিল। জমিদাৰ সকলৰ ধনৰ টোপোলাৰ ওপৰত বুজন পৰিমাণৰ কৰ জাপি দিয়া হৈছিল। এনে কাৰ্য বাদশ্বাহী চৰকাৰৰ দিনত নাছিল বুলি ক'ব পাৰি। বৰং কৰৰ পৰিমাণ নামমাত্ৰ আছিল। জমিদাৰী প্ৰথাৰ জমিদাৰেই মুখ্য ভূমিকা পালন কৰিছিল।

চুক্তিখনক বিদ্রোহী লোকে প্ৰস্তাৱ কৰা 'বাদশ্বাহী চৰকাৰ'ৰ বিকল্প মানে _____

1. ইংলেণ্ডৰ ৰজাৰ শাসন
2. কোম্পানীৰ ৰাজকীয় চৰিত্ৰ
3. বাহাদুৰশ্বাহ জাফৰৰ দৰে ভাৰতীয় আভিজাত্য শ্ৰেণীৰ শাসন
4. ভাৰতীয় সাধাৰণ লোকৰ দ্বাৰা বিদ্রোহী লোকৰ শাসন

Options :

485584146133. 1
485584146134. 2
485584146135. 3
485584146136. 4

Question Number : 150 Question Id : 48558436535 Question Type : MCQ Option Shuffling : No Is Question Mandatory : No Calculator : None Response Time : N.A Think Time : N.A Minimum Instruction Time : 0

Correct Marks : 5 Wrong Marks : 1

Question Key Details :

Key	Value
Comprehension	Comp2

Read the passage and answer the questions :

Section I - Regarding Zemindars. It is evident that the British Government in making zemindary settlement have imposed exorbitant *Jumas* (revenue demand) and have disgraced and ruined several Zemindars by putting up their estates for public auction for arrears of rent, in so much, in the institution of a suit by a common Ryot, a maid servant or a slave, the respectable Zemindars are summoned into court, arrested, put in goal and disgraced. In litigation regarding Zemindaries, the immense value of stamps, and other unnecessary expenses of the civil courts,... are all calculated to impoverish the litigants. Besides this, the coffers of the Zemindars are annually taxed with the subscription for schools, hospitals, roads, etc. Such extortions will have no manner of existence in the Badshahi Government; but on the contrary the *Jumas* will be light, the dignity and honour of the Zemindars safe, and every Zemindar will have absolute rule in his own Zemindary...

Loss of zamindari estates and public auction of the same, as mentioned in the Proclamation, was caused by_____.

1. War of succession with the British.
2. Military expedition of the company.
3. New land reserve settlements of the company.
4. Lack of competence and co-ordination on part of the zamindars.

Options :

- 485584146137. 1
- 485584146138. 2
- 485584146139. 3
- 485584146140. 4

Question Number : 150 Question Id : 48558436535 Question Type : MCQ Option Shuffling : No Is Question Mandatory : No Calculator : None Response Time : N.A Think Time : N.A Minimum Instruction Time : 0

Correct Marks : 5 Wrong Marks : 1

Question Key Details :

Key	Value
Comprehension	Comp2

পাঠটো পঢ়ি তলৰ প্ৰশ্নবোৰৰ উত্তৰ লিখা।

ধাৰা-1 (জমিদাৰ সম্পৰ্কে)

এইটো স্পষ্ট যে জমিদাৰী বন্দোবস্তৰ নামত বৃটিছ চৰকাৰে জমিদাৰসকলক নানা ধৰণে অত্যাচাৰ কৰিছিল। চৰকাৰে আৰোপ কৰা অত্যাধিক ৰাজহ দিবলৈ গৈ বহু জমিদাৰ সৰ্বস্বাস্ত হৈছিল। তেওঁলোকৰ মাটি সম্পত্তি নিলামত বিক্ৰী কৰি অতিৰিক্ত ভাড়াৰ বকেয়া আদায় কৰা হৈছিল।

সাধাৰণ খেতিয়ক বা ঘৰত নিয়োগ কৰা কৰ্মীৰ দৰেই জমিদাৰ সকলক আদালতৰ কাগজ দি মাতি নিয়া হৈছিল। গেষ্টাৰ কৰা হৈছিল আৰু তাৰ ফলত তেওঁলোকৰ মান-সন্মানত আঘাত দিয়া হৈছিল। গোচৰৰ নামত তেওঁলোকৰ পৰা অসামৰিক আদালতত অধিক অথবা অপ্ৰয়োজনীয় মাচুল লোৱাৰ লগতে অত্যাধিক মূল্যত জুপি দিয়া হৈছিল। ইয়াৰ ফলত গোচৰীয়া হিচাপেও জমিদাৰ সকলক শক্তিশীল কৰা হৈছিল। জমিদাৰ সকলৰ ধনৰ টোপোলাৰ ওপৰত বুজন পৰিমাণৰ কৰ জুপি দিয়া হৈছিল। এনে কাৰ্য বাদশ্বাহী চৰকাৰৰ দিনত নাছিল বুলি ক'ব পাৰি। বৰং কৰৰ পৰিমাণ নামমাত্ৰ আছিল। জমিদাৰী প্ৰথাত জমিদাৰেই মুখ্য ভূমিকা পালন কৰিছিল।

ঘোষণা পত্ৰ মতে কি কাৰণে জমিদাৰী মাটি-সম্পত্তি নিলামত দিয়া হৈছিল?

1. বৃটিছৰ সৈতে উত্তৰাধিকাৰ যুদ্ধ
2. কোম্পানীৰ সৈনিক অভিযান
3. কোম্পানীৰ নতুন ভূমি সংৰক্ষণ বন্দোবস্ত
4. জমিদাৰসকলৰ ফালৰ পৰা যোগ্যতা আৰু সমন্বয়ৰ অভাৱ

Options :

485584146137. 1
485584146138. 2
485584146139. 3
485584146140. 4

Home Science

Group Number :	5
Group Id :	485584825
Group Maximum Duration :	45
Group Minimum Duration :	45
Show Attended Group? :	No
Edit Attended Group? :	No
Break time :	0
Group Marks :	200
Is this Group for Examiner? :	No
Examiner permission :	Cant View
Show Progress Bar? :	No

Home Science

Section Id :	485584949
Section Number :	1
Section type :	Online
Mandatory or Optional :	Mandatory
Number of Questions :	50
Number of Questions to be attempted :	40
Section Marks :	200
Enable Mark as Answered Mark for Review and Clear Response :	Yes
Maximum Instruction Time :	0
Sub-Section Number :	1
Sub-Section Id :	4855842699
Question Shuffling Allowed :	Yes
Is Section Default? :	null

Question Number : 151 Question Id : 48558436536 Question Type : MCQ Option Shuffling : No Is Question Mandatory : No Calculator : None Response Time : N.A Think Time : N.A Minimum Instruction Time : 0

Correct Marks : 5 Wrong Marks : 1

Question Key Details :

Key	Value
Comprehension	MCQ

The Persons with Disabilities Act was passed in which year?

1. 1995
2. 1996
3. 2000
4. 1998

Options :

485584146141. 1
485584146142. 2
485584146143. 3
485584146144. 4

Question Number : 151 Question Id : 48558436536 Question Type : MCQ Option Shuffling : No Is Question Mandatory : No Calculator : None Response Time : N.A Think Time : N.A Minimum Instruction Time : 0

Correct Marks : 5 Wrong Marks : 1

Question Key Details :

Key	Value
Comprehension	MCQ

কোন চনত প্ৰতিবন্ধী ব্যক্তিৰ বাবে আইন গৃহীত হৈছিল?

1. 1995
2. 1996
3. 2000
4. 1998

Options :

485584146141. 1
485584146142. 2
485584146143. 3
485584146144. 4

Question Number : 152 Question Id : 48558436537 Question Type : MCQ Option Shuffling : No Is Question Mandatory : No Calculator : None Response Time : N.A Think Time : N.A Minimum Instruction Time : 0

Correct Marks : 5 Wrong Marks : 1

Question Key Details :

Key	Value
Comprehension	MCQ

The causes of disability in children can be grouped into three categories which are:

- A. Factors that impinge on the child during development
- B. Factors due to school education
- C. Factors that affect before birth, both genetic and non-genetic
- D. Factors that affect the child at birth or soon after birth

Choose the correct answer from the options given below:

1. A, C and D only
2. A, B and C only
3. B, C and D only
4. A, B and D only

Options :

485584146145. 1
485584146146. 2
485584146147. 3
485584146148. 4

Question Number : 152 Question Id : 48558436537 Question Type : MCQ Option Shuffling : No Is Question Mandatory : No Calculator : None Response Time : N.A Think Time : N.A Minimum Instruction Time : 0

Correct Marks : 5 Wrong Marks : 1

Question Key Details :

Key	Value
Comprehension	MCQ

শিশুৰ অক্ষমতাৰ কাৰণসমূহ তিনি ভাগত ভগাব পাৰি

- A. বিকাশৰ সময়ৰ কাৰণসমূহ
- B. বিদ্যালয় শিক্ষাৰ লগত জড়িত কাৰণসমূহ
- C. জন্মৰ আগৰ জিনীয় আৰু অনাজিনীয়, কাৰণসমূহ
- D. জন্মৰ সময়ৰ তাৰ ঠিক পিছৰ কাৰণসমূহ

তলত দিয়া বিকল্পবোৰৰ ভিতৰত শুদ্ধ উত্তৰটো বাছি উলিওৱা

- 1. A, C আৰু D মাত্ৰ
- 2. A, B আৰু C মাত্ৰ
- 3. B, C আৰু D মাত্ৰ
- 4. A, B আৰু D মাত্ৰ

Options :

- 485584146145. 1
- 485584146146. 2
- 485584146147. 3
- 485584146148. 4

Question Number : 153 Question Id : 48558436538 Question Type : MCQ Option Shuffling : No Is Question Mandatory : No Calculator : None Response Time : N.A Think Time : N.A Minimum Instruction Time : 0

Correct Marks : 5 Wrong Marks : 1

Question Key Details :

Key	Value
Comprehension	MCQ

_____ is the basic unit of society which looks after its members.

- 1. School
- 2. Family
- 3. Neighbour
- 4. Friends

Options :

- 485584146149. 1
- 485584146150. 2
- 485584146151. 3
- 485584146152. 4

Question Number : 153 Question Id : 48558436538 Question Type : MCQ Option Shuffling : No Is Question Mandatory : No Calculator : None Response Time : N.A Think Time : N.A Minimum Instruction Time : 0

Correct Marks : 5 Wrong Marks : 1

Question Key Details :

Key	Value
Comprehension	MCQ

তলৰ কোনটো এক সমাজৰ প্ৰাথমিক গোট যি ইয়াৰ সদস্যসমূহ চোৱা-চিতা কৰে-

1. বিদ্যালয়
2. পৰিয়াল
3. চুবুৰী
4. বন্ধু-বান্ধৱী

Options :

485584146149. 1
485584146150. 2
485584146151. 3
485584146152. 4

Question Number : 154 Question Id : 48558436539 Question Type : MCQ Option Shuffling : No Is Question Mandatory : No Calculator : None Response Time : N.A Think Time : N.A Minimum Instruction Time : 0

Correct Marks : 5 Wrong Marks : 1

Question Key Details :

Key	Value
Comprehension	MCQ

In India, a senior citizen is a person belonging to which of the following age group?

1. 65 years and above
2. 60 years and above
3. 70 years and above
4. 80 years and above

Options :

485584146153. 1
485584146154. 2
485584146155. 3
485584146156. 4

Question Number : 154 Question Id : 48558436539 Question Type : MCQ Option Shuffling : No Is Question Mandatory : No Calculator : None Response Time : N.A Think Time : N.A Minimum Instruction Time : 0

Correct Marks : 5 Wrong Marks : 1

Question Key Details :

Key	Value
Comprehension	MCQ

ভাৰতবৰ্ষত তলৰ কোনটো বয়সসীমাৰ লোকক জেষ্ঠ নাগৰিক বুলি ধৰা হয়?

1. 65 বছৰ আৰু তাৰ ওপৰৰ
2. 60 বছৰ আৰু তাৰ ওপৰৰ
3. 70 বছৰ আৰু তাৰ ওপৰৰ
4. 80 বছৰ আৰু তাৰ ওপৰৰ

Options :

485584146153. 1
485584146154. 2
485584146155. 3
485584146156. 4

Question Number : 155 Question Id : 48558436540 Question Type : MCQ Option Shuffling : No Is Question Mandatory : No Calculator : None Response Time : N.A Think Time : N.A Minimum Instruction Time : 0

Correct Marks : 5 Wrong Marks : 1

Question Key Details :

Key	Value
Comprehension	MCQ

In which year, Ministry of Youth Affairs and Sports adopted the National Youth Policy?

1. 2005
2. 2003
3. 2004
4. 2010

Options :

485584146157. 1
485584146158. 2
485584146159. 3
485584146160. 4

Question Number : 155 Question Id : 48558436540 Question Type : MCQ Option Shuffling : No Is Question Mandatory : No Calculator : None Response Time : N.A Think Time : N.A Minimum Instruction Time : 0

Correct Marks : 5 Wrong Marks : 1

Question Key Details :

Key	Value
Comprehension	MCQ

কোন চনত য়র পৰিক্ৰমা আৰু ক্ৰীড়া মন্ত্ৰালয়ে ৰাষ্ট্ৰীয় য়ৱনীতি গ্ৰহণ কৰিছিল?

1. 2005
2. 2003
3. 2004
4. 2010

Options :

485584146157. 1
485584146158. 2
485584146159. 3
485584146160. 4

Question Number : 156 Question Id : 48558436541 Question Type : MCQ Option Shuffling : No Is Question Mandatory : No Calculator : None Response Time : N.A Think Time : N.A Minimum Instruction Time : 0

Correct Marks : 5 Wrong Marks : 1

Question Key Details :

Key	Value
Comprehension	MCQ

Name the psychologist who outlined the great need that children have for a concerned, caring and knowledgeable adult.

1. Piaget
2. Freud
3. Vygotsky
4. Bruner

Options :

485584146161. 1
485584146162. 2
485584146163. 3
485584146164. 4

Question Number : 156 Question Id : 48558436541 Question Type : MCQ Option Shuffling : No Is Question Mandatory : No Calculator : None Response Time : N.A Think Time : N.A Minimum Instruction Time : 0

Correct Marks : 5 Wrong Marks : 1

Question Key Details :

Key	Value
Comprehension	MCQ

শিশুৰ কাৰণে এজন জ্ঞানী প্ৰাপ্তবয়স্কৰ অতি প্ৰয়োজন- এই কথাষাৰৰ ৰূপৰেখা প্ৰস্তুত কৰা মনোবিজ্ঞানীজন হ'ল.

1. পিয়াগেট
2. ফ্ৰয়েদ
3. ব্যাণ্টকি
4. ব্ৰুনাৰ

Options :

485584146161. 1
485584146162. 2
485584146163. 3
485584146164. 4

Question Number : 157 Question Id : 48558436542 Question Type : MCQ Option Shuffling : No Is Question Mandatory : No Calculator : None Response Time : N.A Think Time : N.A Minimum Instruction Time : 0

Correct Marks : 5 Wrong Marks : 1

Question Key Details :

Key	Value
Comprehension	MCQ

Identify the given standardisation mark.



1. ISI
2. FPO
3. AGMARK
4. Hallmark

Options :

485584146165. 1
485584146166. 2
485584146167. 3
485584146168. 4

Question Number : 157 Question Id : 48558436542 Question Type : MCQ Option Shuffling : No Is Question Mandatory : No Calculator : None Response Time : N.A Think Time : N.A Minimum Instruction Time : 0

Correct Marks : 5 Wrong Marks : 1

Question Key Details :

Key	Value
Comprehension	MCQ

তলৰ প্ৰমাণীকৰণ চিহ্নটো চিনাক্ত কৰাঃ



1. ISI
2. FPO
3. AGMARK
4. Hallmark

Options :

485584146165. 1
485584146166. 2
485584146167. 3
485584146168. 4

Question Number : 158 Question Id : 48558436543 Question Type : MCQ Option Shuffling : No Is Question Mandatory : No Calculator : None Response Time : N.A Think Time : N.A Minimum Instruction Time : 0

Correct Marks : 5 Wrong Marks : 1

Question Key Details :

Key	Value
Comprehension	MCQ

A process through which buyer makes decisions about purchasing is known as _____.

1. Consumer behaviour
2. Consumer right
3. Consumer footfall
4. Consumer expectation

Options :

485584146169. 1

485584146170. 2
485584146171. 3
485584146172. 4

**Question Number : 158 Question Id : 48558436543 Question Type : MCQ Option Shuffling : No Is Question Mandatory :
No Calculator : None Response Time : N.A Think Time : N.A Minimum Instruction Time : 0**

Correct Marks : 5 Wrong Marks : 1

Question Key Details :

Key	Value
Comprehension	MCQ

ক্ৰেতা এজনে এটা সামগ্ৰীক্ৰয়ৰ বাবে সিদ্ধান্তগ্ৰহণ কৰা প্ৰক্ৰিয়াটোক _____ বোলে।

1. উপভোক্তাৰ আচৰণ
2. উপভোক্তাৰ অধিকাৰ
3. উপভোক্তা পদাৰ্পন (football)
4. উপভোক্তাৰ আশা-প্ৰত্যাশা

Options :

485584146169. 1
485584146170. 2
485584146171. 3
485584146172. 4

**Question Number : 159 Question Id : 48558436544 Question Type : MCQ Option Shuffling : No Is Question Mandatory :
No Calculator : None Response Time : N.A Think Time : N.A Minimum Instruction Time : 0**

Correct Marks : 5 Wrong Marks : 1

Question Key Details :

Key	Value
Comprehension	MCQ

Which of the following is a tool to empower and equip consumers to protect themselves from adverse market forces ?

1. Consumer education
2. Consumer problems
3. Consumer behaviour
4. Consumer responsibility

Options :

485584146173. 1
485584146174. 2
485584146175. 3
485584146176. 4

**Question Number : 159 Question Id : 48558436544 Question Type : MCQ Option Shuffling : No Is Question Mandatory :
No Calculator : None Response Time : N.A Think Time : N.A Minimum Instruction Time : 0**

Correct Marks : 5 Wrong Marks : 1

Question Key Details :

Key	Value
Comprehension	MCQ

তলৰ কোনটো গ্ৰাহকক প্ৰতিকূল বজাৰ শক্তিৰপৰা নিজকে বক্ষা কৰিবলৈ সক্ষম আৰু সজ্জিত কৰাৰ
আহিলা?

1. উপভোক্তা শিক্ষা
2. উপভোক্তা সমস্যা
3. উপভোক্তা আচৰণ
4. উপভোক্তা দায়িত্ব

Options :

485584146173. 1
485584146174. 2
485584146175. 3
485584146176. 4

Question Number : 160 Question Id : 48558436545 Question Type : MCQ Option Shuffling : No Is Question Mandatory :
No Calculator : None Response Time : N.A Think Time : N.A Minimum Instruction Time : 0

Correct Marks : 5 Wrong Marks : 1

Question Key Details :

Key	Value
Comprehension	MCQ

What is the other name for short lived fashion?

1. Fad
2. Classic
3. Style
4. Design

Options :

485584146177. 1
485584146178. 2
485584146179. 3
485584146180. 4

Question Number : 160 Question Id : 48558436545 Question Type : MCQ Option Shuffling : No Is Question Mandatory :
No Calculator : None Response Time : N.A Think Time : N.A Minimum Instruction Time : 0

Correct Marks : 5 Wrong Marks : 1

Question Key Details :

Key	Value
Comprehension	MCQ

কম দিনৰ বাবে তিষ্ঠি থকা ফেশ্বনৰ অন্য নাম হ'ল-

1. ফেদচ (Fad)
2. ধৰুপদী (Classic)
3. শৈলী (Style)
4. ডিজাইন

Options :

485584146177. 1
485584146178. 2
485584146179. 3
485584146180. 4

Question Number : 161 Question Id : 48558436546 Question Type : MCQ Option Shuffling : No Is Question Mandatory : No Calculator : None Response Time : N.A Think Time : N.A Minimum Instruction Time : 0

Correct Marks : 5 Wrong Marks : 1

Question Key Details :

Key	Value
Comprehension	MCQ

You have to purchase a dress for your sister who is tall and slim. Inclusion of which of the following will be appropriate for her?

1. Vertical lines
2. Horizontal lines
3. Dark colours
4. High waist bodice

Options :

485584146181. 1
485584146182. 2
485584146183. 3
485584146184. 4

Question Number : 161 Question Id : 48558436546 Question Type : MCQ Option Shuffling : No Is Question Mandatory : No Calculator : None Response Time : N.A Think Time : N.A Minimum Instruction Time : 0

Correct Marks : 5 Wrong Marks : 1

Question Key Details :

Key	Value
Comprehension	MCQ

তুমি তোমাৰ ভণ্টিৰ বাবে এযোৰ কাপোৰ বিচাৰিব খুজিছা, তাই ওখ আৰু ক্ষীণ। তাইৰ বাবে তলৰ কোনটো উপযুক্ত হ'ব?

1. উলম্ব বেখায়ুক্ত
2. আনুভূমিক বেখায়ুক্ত
3. গাঢ় ৰং
4. উচ্চ কঁকালৰ বডিচ (bodice)

Options :

485584146181. 1
485584146182. 2
485584146183. 3
485584146184. 4

Question Number : 162 Question Id : 48558436547 Question Type : MCQ Option Shuffling : No Is Question Mandatory : No Calculator : None Response Time : N.A Think Time : N.A Minimum Instruction Time : 0

Correct Marks : 5 Wrong Marks : 1

Question Key Details :

Key	Value
Comprehension	MCQ

_____ ability requires a thorough knowledge of past future trends and current future trends.

1. Analytical
2. Forecasting
3. Communication
4. Technical

Options :

485584146185. 1
485584146186. 2
485584146187. 3
485584146188. 4

Question Number : 162 Question Id : 48558436547 Question Type : MCQ Option Shuffling : No Is Question Mandatory : No Calculator : None Response Time : N.A Think Time : N.A Minimum Instruction Time : 0

Correct Marks : 5 Wrong Marks : 1

Question Key Details :

Key	Value
Comprehension	MCQ

_____ দক্ষতা মানে হ'ল ভৱিষ্যতৰ ফেশ্বন ধাৰাৰ বিষয়ে ক'ব পৰা।

1. বিশ্লেষণাত্মক (Analytical)
2. আগজাননী (Forecasting)
3. যোগাযোগ (Communication)
4. প্ৰযুক্তিগত (Technical)

Options :

485584146185. 1
485584146186. 2
485584146187. 3
485584146188. 4

Question Number : 163 Question Id : 48558436548 Question Type : MCQ Option Shuffling : No Is Question Mandatory : No Calculator : None Response Time : N.A Think Time : N.A Minimum Instruction Time : 0

Correct Marks : 5 Wrong Marks : 1

Question Key Details :

Key	Value
Comprehension	MCQ

_____ is the important phase in wash cycle. If it is not done properly, clothes may look grey, dull with harsh texture.

1. Water extraction
2. Rinsing
3. Drying
4. Pressing

Options :

485584146189. 1
485584146190. 2
485584146191. 3
485584146192. 4

Question Number : 163 Question Id : 48558436548 Question Type : MCQ Option Shuffling : No Is Question Mandatory : No Calculator : None Response Time : N.A Think Time : N.A Minimum Instruction Time : 0

Correct Marks : 5 Wrong Marks : 1

Question Key Details :

Key	Value
Comprehension	MCQ

_____ হাল ধোৱন চক্ৰৰ গুৰুত্বপূৰ্ণ পৰ্যায়। যদি এই পৰ্যায়টি ভালদৰে সম্পন্ন নহয় তেতিয়া কাপোৰবোৰ
ধোৱা বৰণীয়া আৰু নিস্তেজ দেখা যাব পাৰে।

1. পানী নিৰ্মূলকৰণ (Water extraction)
2. কাপোৰ আওখলা (Rinsing)
3. শুকুওৱা (Drying)
4. কাপোৰ চেপা (Pressing)

Options :

485584146189. 1
485584146190. 2
485584146191. 3
485584146192. 4

**Question Number : 164 Question Id : 48558436549 Question Type : MCQ Option Shuffling : No Is Question Mandatory :
No Calculator : None Response Time : N.A Think Time : N.A Minimum Instruction Time : 0**

Correct Marks : 5 Wrong Marks : 1

Question Key Details :

Key	Value
Comprehension	MCQ

Which of the following colour scheme refers to a colour combination using two or three hues that lie side by side on the colour wheel?

1. Achromatic harmony
2. Accented neutral
3. Analogous harmony
4. Complementary harmony

Options :

485584146193. 1
485584146194. 2
485584146195. 3
485584146196. 4

**Question Number : 164 Question Id : 48558436549 Question Type : MCQ Option Shuffling : No Is Question Mandatory :
No Calculator : None Response Time : N.A Think Time : N.A Minimum Instruction Time : 0**

Correct Marks : 5 Wrong Marks : 1

Question Key Details :

Key	Value
Comprehension	MCQ

যে ৰং চক্ৰৰ কাষে কাষে থকা দুটা বা তিনিটা ৰং ব্যৱহাৰ কৰি প্ৰস্তুত কৰা ৰঙৰ সংমিশ্ৰণক বুজায়।

1. এক্ৰ'মেটিক হাৰ্মণি (Achromatic harmony)
2. এচেণ্টেড প্ৰশম (Accented neutral)
3. অনুকপ মিশ্ৰ (Analogous harmony)
4. পৰিপূৰক মিশ্ৰ (Complementary harmony)

Options :

485584146193. 1
485584146194. 2
485584146195. 3
485584146196. 4

Question Number : 165 Question Id : 48558436550 Question Type : MCQ Option Shuffling : No Is Question Mandatory : No Calculator : None Response Time : N.A Think Time : N.A Minimum Instruction Time : 0

Correct Marks : 5 Wrong Marks : 1

Question Key Details :

Key	Value
Comprehension	MCQ

The term "Development Communication" was first coined by Quebral in which year?

1. 1969
2. 1970
3. 1972
4. 1974

Options :

485584146197. 1
485584146198. 2
485584146199. 3
485584146200. 4

Question Number : 165 Question Id : 48558436550 Question Type : MCQ Option Shuffling : No Is Question Mandatory : No Calculator : None Response Time : N.A Think Time : N.A Minimum Instruction Time : 0

Correct Marks : 5 Wrong Marks : 1

Question Key Details :

Key	Value
Comprehension	MCQ

কিউব্ৰেলে "উন্নয়ন যোগাযোগ" প্রথম কেতিয়া আৰম্ভ কৰিছিল?

1. 1969
2. 1970
3. 1972
4. 1974

Options :

485584146197. 1
485584146198. 2
485584146199. 3
485584146200. 4

Question Number : 166 Question Id : 48558436551 Question Type : MCQ Option Shuffling : No Is Question Mandatory : No Calculator : None Response Time : N.A Think Time : N.A Minimum Instruction Time : 0

Correct Marks : 5 Wrong Marks : 1

Question Key Details :

Key	Value
Comprehension	MCQ

To create focused attention on a small village in Delhi, the Project village Chattera was started in 1969. Which newspaper was involved in this project?

1. The Times of India
2. The Hindustan Times
3. Navbharat times
4. The Hindu

Options :

485584146201. 1
485584146202. 2
485584146203. 3
485584146204. 4

Question Number : 166 Question Id : 48558436551 Question Type : MCQ Option Shuffling : No Is Question Mandatory : No Calculator : None Response Time : N.A Think Time : N.A Minimum Instruction Time : 0

Correct Marks : 5 Wrong Marks : 1

Question Key Details :

Key	Value
Comprehension	MCQ

1969 চনত দিল্লীৰ এখন সৰু গাওঁৰ প্ৰতি মনোযোগ দিবৰ বাবে 'চট্টোৰা গ্ৰাম পৰিযোজনা' আৰম্ভ কৰা হৈছিল। এই প্ৰকল্পটোৰ সৈতে কোনখন বাতৰি কাকত জড়িত আছিল?

1. টাইমচ অৱ ইণ্ডিয়া
2. দ্য হিন্দুস্তান টাইমছ
3. নৱভাৰত টাইমচ
4. দ্য হিন্দু

Options :

485584146201. 1
485584146202. 2
485584146203. 3
485584146204. 4

Question Number : 167 Question Id : 48558436552 Question Type : MCQ Option Shuffling : No Is Question Mandatory : No Calculator : None Response Time : N.A Think Time : N.A Minimum Instruction Time : 0

Correct Marks : 5 Wrong Marks : 1

Question Key Details :

Key	Value
Comprehension	MCQ

In which of the following disease condition, low fibre diet is recommended?

1. Diarrhoea
2. Constipation
3. Diabetes
4. Heart disease

Options :

485584146205. 1
485584146206. 2
485584146207. 3
485584146208. 4

Question Number : 167 Question Id : 48558436552 Question Type : MCQ Option Shuffling : No Is Question Mandatory : No Calculator : None Response Time : N.A Think Time : N.A Minimum Instruction Time : 0

Correct Marks : 5 Wrong Marks : 1

Question Key Details :

Key	Value
Comprehension	MCQ

কম আঁহযুক্ত আহাৰ কোনটো বেমাৰত দিয়া হয়?

1. ডায়েৰিয়া
2. কৌষ্ঠকাঠিন্য
3. মধুমেহ
4. হৃদৰোগ

Options :

485584146205. 1
485584146206. 2
485584146207. 3
485584146208. 4

Question Number : 168 Question Id : 48558436553 Question Type : MCQ Option Shuffling : No Is Question Mandatory : No Calculator : None Response Time : N.A Think Time : N.A Minimum Instruction Time : 0

Correct Marks : 5 Wrong Marks : 1

Question Key Details :

Key	Value
Comprehension	MCQ

Which of the following is a welfare catering service ?

1. Holiday camps
2. Langar
3. Clubs
4. Flight kitchens

Options :

485584146209. 1
485584146210. 2
485584146211. 3
485584146212. 4

Question Number : 168 Question Id : 48558436553 Question Type : MCQ Option Shuffling : No Is Question Mandatory : No Calculator : None Response Time : N.A Think Time : N.A Minimum Instruction Time : 0

Correct Marks : 5 Wrong Marks : 1

Question Key Details :

Key	Value
Comprehension	MCQ

তলৰ কোনটো এটা কল্যাণমূলক খাদ্য পৰিবেশন সেৱা ?

1. বন্ধদিনত কৰা কেম্প
2. লাংগৰ
3. ক্লাব (সংঘ)
4. ফ্লাইট কিটচেন

Options :

485584146209. 1
485584146210. 2
485584146211. 3
485584146212. 4

Question Number : 169 Question Id : 48558436554 Question Type : MCQ Option Shuffling : No Is Question Mandatory : No Calculator : None Response Time : N.A Think Time : N.A Minimum Instruction Time : 0

Correct Marks : 5 Wrong Marks : 1

Question Key Details :

Key	Value
Comprehension	MCQ

Which of these is NOT a feature of GMP (Good Manufacturing Practice)?

1. Minimise false labelling
2. Consumer education
3. Eliminate contamination
4. Mislead consumer

Options :

485584146213. 1
485584146214. 2
485584146215. 3
485584146216. 4

Question Number : 169 Question Id : 48558436554 Question Type : MCQ Option Shuffling : No Is Question Mandatory : No Calculator : None Response Time : N.A Think Time : N.A Minimum Instruction Time : 0

Correct Marks : 5 Wrong Marks : 1

Question Key Details :

Key	Value
Comprehension	MCQ

তলৰ কোনটো GMP ৰ (ভাল উৎপাদন পদ্ধতি) এটা বৈশিষ্ট্য নহয় ?

1. ভুৱা লেবেল লগোৱা কম কৰা
2. উপভোক্তাৰ শিক্ষা
3. দূষিত পদাৰ্থ দূৰ কৰা
4. উপভোক্তাক বিপথে পৰিচালিত কৰা

Options :

485584146213. 1
485584146214. 2
485584146215. 3
485584146216. 4

Question Number : 170 Question Id : 48558436555 Question Type : MCQ Option Shuffling : No Is Question Mandatory : No Calculator : None Response Time : N.A Think Time : N.A Minimum Instruction Time : 0

Correct Marks : 5 Wrong Marks : 1

Question Key Details :

Key	Value
Comprehension	MCQ

In the context of food standards regulations, which of the following is an international reference for quality management of an organisation?

1. ISO 6000
2. ISO 7000
3. ISO 8000
4. ISO 9000

Options :

485584146217. 1
485584146218. 2
485584146219. 3
485584146220. 4

Question Number : 170 Question Id : 48558436555 Question Type : MCQ Option Shuffling : No Is Question Mandatory : No Calculator : None Response Time : N.A Think Time : N.A Minimum Instruction Time : 0

Correct Marks : 5 Wrong Marks : 1

Question Key Details :

Key	Value
Comprehension	MCQ

খাদ্য মানদণ্ডৰ নীতি-নিয়ম ক্ষেত্ৰত, তলৰ কোনটো ব্যৱস্থা এটাৰ গুণমান ব্যৱস্থাপনাৰ কাৰণে প্ৰযোজ্য আন্তঃৰাষ্ট্ৰীয় প্ৰসংগ?

1. ISO 6000
2. ISO 7000
3. ISO 8000
4. ISO 9000

Options :

485584146217. 1
485584146218. 2
485584146219. 3
485584146220. 4

Question Number : 171 Question Id : 48558436556 Question Type : MCQ Option Shuffling : No Is Question Mandatory : No Calculator : None Response Time : N.A Think Time : N.A Minimum Instruction Time : 0

Correct Marks : 5 Wrong Marks : 1

Question Key Details :

Key	Value
Comprehension	MCQ

In the context of food safety, intentional or accidental addition of impure ingredients that alters the properties and diminishes the quality of food is known as _____.

1. Contamination
2. Toxicity
3. Adulteration
4. Hazard

Options :

485584146221. 1
485584146222. 2
485584146223. 3
485584146224. 4

Question Number : 171 Question Id : 48558436556 Question Type : MCQ Option Shuffling : No Is Question Mandatory : No Calculator : None Response Time : N.A Think Time : N.A Minimum Instruction Time : 0

Correct Marks : 5 Wrong Marks : 1

Question Key Details :

Key	Value
Comprehension	MCQ

খাদ্য সুৰক্ষাৰ ক্ষেত্ৰত, ইচ্ছাকৃতভাৱে বা আকস্মিকভাৱে অশুদ্ধ উপাদান যোগ কৰা, যি খাদ্যৰ গুণাগুণ সলনি কৰে আৰু গুণমান হ্ৰাস কৰে, তাক _____ বোলা হয়।

1. দূষণ (Contamination)
2. বিষাক্ততা (Toxicity)
3. ভেজালকৰণ (Adulteration)
4. বিপদ (Hazard)

Options :

485584146221. 1
485584146222. 2
485584146223. 3
485584146224. 4

Question Number : 172 Question Id : 48558436557 Question Type : MCQ Option Shuffling : No Is Question Mandatory : No Calculator : None Response Time : N.A Think Time : N.A Minimum Instruction Time : 0

Correct Marks : 5 Wrong Marks : 1

Question Key Details :

Key	Value
Comprehension	MCQ

Fortification as an intervention is used under which of the following strategies to combat public nutrition problems ?

1. Nutrient based strategy
2. Medicinal strategy
3. Diet based strategy
4. Supplement based strategy

Options :

485584146225. 1
485584146226. 2
485584146227. 3
485584146228. 4

Question Number : 172 Question Id : 48558436557 Question Type : MCQ Option Shuffling : No Is Question Mandatory : No Calculator : None Response Time : N.A Think Time : N.A Minimum Instruction Time : 0

Correct Marks : 5 Wrong Marks : 1

Question Key Details :

Key	Value
Comprehension	MCQ

তলৰ কোনটো কৌশলক জনসাধাৰণৰ পুষ্টিৰ সমস্যাৰ বিৰুদ্ধে যুজ দিবৰ বাবে খাদ্য Fortification ৰ উপায় হিচাপে ব্যৱহাৰ কৰা হয়?

1. পৰি পুষ্টিমূলক কৌশল
2. ঔষধভিত্তিক কৌশল
3. খাদ্যভিত্তিক কৌশল
4. পৰিপূৰকমূলক কৌশল

Options :

485584146225. 1
485584146226. 2
485584146227. 3
485584146228. 4

Question Number : 173 Question Id : 48558436558 Question Type : MCQ Option Shuffling : No Is Question Mandatory : No Calculator : None Response Time : N.A Think Time : N.A Minimum Instruction Time : 0

Correct Marks : 5 Wrong Marks : 1

Question Key Details :

Key	Value
Comprehension	MCQ

Which of the following is referred to as "Hidden Hunger" in the context of nutritional problems?

1. Micronutrient deficiencies
2. Malnutrition
3. Stunting
4. Wasting

Options :

485584146229. 1
485584146230. 2
485584146231. 3
485584146232. 4

Question Number : 173 Question Id : 48558436558 Question Type : MCQ Option Shuffling : No Is Question Mandatory : No Calculator : None Response Time : N.A Think Time : N.A Minimum Instruction Time : 0

Correct Marks : 5 Wrong Marks : 1

Question Key Details :

Key	Value
Comprehension	MCQ

পৰিপুষ্টি সমস্যাৰ ক্ষেত্ৰত তলৰ কোনটোক "সুপ্ত ভোক" বুলি কোৱা হয়?

1. অনুপুষ্টিৰ পদাৰ্থৰ অভাৱ
2. পুষ্টিহীনতা
3. ষ্টানটিং (Stunting)
4. অপব্যয় (Wasting)

Options :

485584146229. 1
485584146230. 2
485584146231. 3
485584146232. 4

Question Number : 174 Question Id : 48558436559 Question Type : MCQ Option Shuffling : No Is Question Mandatory : No Calculator : None Response Time : N.A Think Time : N.A Minimum Instruction Time : 0

Correct Marks : 5 Wrong Marks : 1

Question Key Details :

Key	Value
Comprehension	MCQ

Which of the following government body framed the National Nutrition Policy (NNP) of India in the year 1993?

1. Department of Women and Child Development
2. Ministry of Health and Family Welfare
3. Department of Science and Technology
4. Ministry of Consumer Affairs

Options :

485584146233. 1
485584146234. 2
485584146235. 3
485584146236. 4

Question Number : 174 Question Id : 48558436559 Question Type : MCQ Option Shuffling : No Is Question Mandatory : No Calculator : None Response Time : N.A Think Time : N.A Minimum Instruction Time : 0

Correct Marks : 5 Wrong Marks : 1

Question Key Details :

Key	Value
Comprehension	MCQ

1993 চনত তলৰ কোনটো সংস্থাই ভাৰতত ৰাষ্ট্ৰীয় পৰিপূৰ্ণ নীতি (NNP) যুগুতাইছিল?

1. মহিলা আৰু শিশু বিভাগ
2. খাদ্য আৰু পৰিপূৰ্ণ মন্ত্ৰালয়
3. বিজ্ঞান আৰু প্ৰযুক্তিবিদ্যা বিভাগ
4. উপভোক্তা পৰিক্ৰমা মন্ত্ৰালয়

Options :

485584146233. 1
485584146234. 2
485584146235. 3
485584146236. 4

Question Number : 175 Question Id : 48558436560 Question Type : MCQ Option Shuffling : No Is Question Mandatory : No Calculator : None Response Time : N.A Think Time : N.A Minimum Instruction Time : 0

Correct Marks : 5 Wrong Marks : 1

Question Key Details :

Key	Value
Comprehension	MCQ

Arrange the organizational structure / hierarchy followed by housekeeping department from top to bottom.

- A. Assistant housekeeper
- B. Room attendant
- C. Executive housekeeper
- D. Housemen
- E. Floor supervisor

Choose the correct answer from the options given below:

1. A, B, C, D, E
2. C, A, E, D, B
3. A, C, E, B, D
4. C, A, E, B, D

Options :

485584146237. 1
485584146238. 2
485584146239. 3
485584146240. 4

Question Number : 175 Question Id : 48558436560 Question Type : MCQ Option Shuffling : No Is Question Mandatory : No Calculator : None Response Time : N.A Think Time : N.A Minimum Instruction Time : 0

Correct Marks : 5 Wrong Marks : 1

Question Key Details :

Key	Value
-----	-------

সাধাৰণতে গৃহ পৰিচালনা বিভাগে অনুসৰণ কৰা সাংগঠনিক গঠন/অনুক্ৰমটো ওপৰৰ পৰা তললৈ সজোৱা।

- A. সহকাৰী গৃহপৰিচালক
- B. কোঠা সহায়কাৰী
- C. কাৰ্যবাহী গৃহপৰিচালক
- D. ঘৰুৱা মানুহ (Housemen)
- E. মহলা তত্ত্বাবধায়ক (Floor supervisor)

ভলব বিকল্পসমূহৰ পৰা শুদ্ধ উত্তৰটো বাছনি কৰা

- 1. A, B, C, D, E
- 2. C, A, E, D, B
- 3. A, C, E, B, D
- 4. C, A, E, B, D

Options :

- 485584146237. 1
- 485584146238. 2
- 485584146239. 3
- 485584146240. 4

Question Number : 176 Question Id : 48558436561 Question Type : MCQ Option Shuffling : No Is Question Mandatory : No Calculator : None Response Time : N.A Think Time : N.A Minimum Instruction Time : 0

Correct Marks : 5 Wrong Marks : 1

Question Key Details :

Key	Value
Comprehension	MCQ

Give the correct sequence of different stages of apparel production.

- A. Finishing and packaging
- B. Procurement and inspection of raw material
- C. Laying and cutting of fabric / material
- D. Assembly of the product

Choose the correct answer from the options given below:

- 1. A, B, C, D
- 2. B, A, C, D
- 3. D, A, B, C
- 4. B, C, D, A

Options :

- 485584146241. 1
- 485584146242. 2
- 485584146243. 3

485584146244. 4

Question Number : 176 Question Id : 48558436561 Question Type : MCQ Option Shuffling : No Is Question Mandatory : No Calculator : None Response Time : N.A Think Time : N.A Minimum Instruction Time : 0

Correct Marks : 5 Wrong Marks : 1

Question Key Details :

Key	Value
Comprehension	MCQ

পোছাক উৎপাদনৰ ক্ষেত্ৰত বিভিন্ন পৰ্যায়বোৰ ক্ৰমান্বয়ে সজোৱা।

- A. ফিনিচিং আৰু পেকেজিং
- B. কেচামাল ক্ৰয় আৰু পৰিদৰ্শন
- C. কাপোৰ/সামগ্ৰীৰ নক্সাকৰণ আৰু কটা
- D. উৎপাদিত সামগ্ৰীৰ একত্ৰিকৰণ

তলৰ বিকল্পসমূহৰ পৰা শুদ্ধ উত্তৰটো বাছি উলিওৱা

- 1. A, B, C, D
- 2. B, A, C, D
- 3. D, A, B, C
- 4. B, C, D, A

Options :

- 485584146241. 1
- 485584146242. 2
- 485584146243. 3
- 485584146244. 4

Question Number : 177 Question Id : 48558436562 Question Type : MCQ Option Shuffling : No Is Question Mandatory : No Calculator : None Response Time : N.A Think Time : N.A Minimum Instruction Time : 0

Correct Marks : 5 Wrong Marks : 1

Question Key Details :

Key	Value
Comprehension	MCQ

Arrange the given steps of nutritional care during illness in the correct sequence.

- A. Assessing nutritional status
- B. Planning and prioritising nutrition intervention(s)
- C. Diagnosis of nutritional problems
- D. Making changes in the nutritional care outcomes, if necessary
- E. Evaluating nutritional care outcomes

Choose the correct answer from the options given below:

- 1. C, B, A, D, E
- 2. C, E, B, A, D
- 3. A, C, B, E, D
- 4. A, C, B, D, E

Options :

- 485584146245. 1
- 485584146246. 2
- 485584146247. 3
- 485584146248. 4

Question Number : 177 Question Id : 48558436562 Question Type : MCQ Option Shuffling : No Is Question Mandatory : No Calculator : None Response Time : N.A Think Time : N.A Minimum Instruction Time : 0

Correct Marks : 5 Wrong Marks : 1

Question Key Details :

Key	Value
Comprehension	MCQ

পৰিপুষ্টি যত্নৰ ক্ষেত্ৰত প্ৰযোজ্য পৰ্যায়বোৰৰ শুদ্ধ ক্ৰমত সজোৱাঃ

- A. পৰিপুষ্টি অৱস্থাৰ মূল্যায়ন
- B. পৰিপুষ্টিমূলক সমাধানসূত্ৰবোৰৰ পৰিকল্পনা আৰু অগ্ৰাধিকাৰ নিৰূপন
- C. সমস্যা নিৰূপন
- D. প্ৰয়োজন সাপেক্ষে সালসলনি কৰা
- E. পৰিপুষ্টিমূলক যত্নৰ ফলাফলবোৰৰ মূল্যাংকন

তলৰ বিকল্পসমূহৰ পৰা শুদ্ধ উত্তৰটো বাছি উলিওৱা

- 1. C, B, A, D, E
- 2. C, E, B, A, D
- 3. A, C, B, E, D
- 4. A, C, B, D, E

Options :

- 485584146245. 1
- 485584146246. 2
- 485584146247. 3

485584146248. 4

Question Number : 178 Question Id : 48558436563 Question Type : MCQ Option Shuffling : No Is Question Mandatory : No Calculator : None Response Time : N.A Think Time : N.A Minimum Instruction Time : 0

Correct Marks : 5 Wrong Marks : 1

Question Key Details :

Key	Value
Comprehension	MCQ

Which of the following is NOT a department/sector in hospitality industry?

1. Recruitment and staffing
2. Entertainment and recreation
3. Accommodation or front office
4. Food and beverage service

Options :

485584146249. 1
485584146250. 2
485584146251. 3
485584146252. 4

Question Number : 178 Question Id : 48558436563 Question Type : MCQ Option Shuffling : No Is Question Mandatory : No Calculator : None Response Time : N.A Think Time : N.A Minimum Instruction Time : 0

Correct Marks : 5 Wrong Marks : 1

Question Key Details :

Key	Value
Comprehension	MCQ

তলৰ কোনটো আতিথা ব্যৱস্থাপনা ক্ষেত্ৰৰ এক বিভাগ?

1. কৰ্মচাৰীৰ বাছনি আৰু নিযুক্তি
2. মনোৰঞ্জন আৰু বিনোদন
3. খকা খোৱাৰ সুবিধা কৰা বা সন্মুখৰ অফিচ
4. খাদ্য আৰু পানীয় সেৱা

Options :

485584146249. 1
485584146250. 2
485584146251. 3
485584146252. 4

Question Number : 179 Question Id : 48558436564 Question Type : MCQ Option Shuffling : No Is Question Mandatory : No Calculator : None Response Time : N.A Think Time : N.A Minimum Instruction Time : 0

Correct Marks : 5 Wrong Marks : 1

Question Key Details :

Key	Value
Comprehension	MCQ

Which of the following falls under the category of rewards given to sustain high performance employees in an organisation ?

- A. Paid holidays
- B. Tax incentives
- C. Financial packages for children's education
- D. Financial compensation like driver's wages
- E. Disability insurance

Choose the correct answer from the options given below:

- 1. A, C and E only
- 2. A, C and D only
- 3. A, D and E only
- 4. B, C and D only

Options :

- 485584146253. 1
- 485584146254. 2
- 485584146255. 3
- 485584146256. 4

Question Number : 179 Question Id : 48558436564 Question Type : MCQ Option Shuffling : No Is Question Mandatory : No Calculator : None Response Time : N.A Think Time : N.A Minimum Instruction Time : 0

Correct Marks : 5 Wrong Marks : 1

Question Key Details :

Key	Value
Comprehension	MCQ

তলৰ কোনটো এটা অৱস্থাত উচ্চ কৰ্মদক্ষতাসম্পন্ন কৰ্মচাৰীক বজাই ৰাখিবলৈ দিয়া পুৰস্কাৰৰ ভিতৰত পৰে?

- A. দৰমহাসহ বন্ধৰ দিন
- B. কৰ অনুপ্ৰেৰণা (Tax incentives)
- C. ল'ৰা-ছোৱালীৰ শিক্ষাৰ বাবে বিত্তীয় পেকেজ
- D. প্ৰতিবন্ধী বীমা

তলৰ বিকল্পসমূহৰ পৰা শুদ্ধ উত্তৰটো বাছি উলিওৱা

- 1. কেৱল A, C আৰু E
- 2. কেৱল A, C আৰু D
- 3. কেৱল A, D আৰু E
- 4. কেৱল B, C আৰু D

Options :

485584146253. 1
485584146254. 2
485584146255. 3
485584146256. 4

Question Number : 180 Question Id : 48558436565 Question Type : MCQ Option Shuffling : No Is Question Mandatory : No Calculator : None Response Time : N.A Think Time : N.A Minimum Instruction Time : 0

Correct Marks : 5 Wrong Marks : 1

Question Key Details :

Key	Value
Comprehension	MCQ

Which of the following is NOT a function of human resources/ talent management?

1. Marketing management
2. Getting the best employees
3. Retention and redressal
4. Training and developing employees

Options :

485584146257. 1
485584146258. 2
485584146259. 3
485584146260. 4

Question Number : 180 Question Id : 48558436565 Question Type : MCQ Option Shuffling : No Is Question Mandatory : No Calculator : None Response Time : N.A Think Time : N.A Minimum Instruction Time : 0

Correct Marks : 5 Wrong Marks : 1

Question Key Details :

Key	Value
Comprehension	MCQ

তলৰ কোনটো মানব সম্পদ ব্যবস্থাপনাৰ কাৰ্য্য নহয় ?

1. বজাৰ/বিপন্নন ব্যৱস্থাপনা
2. ভাল কৰ্মচাৰী নিয়োগ
3. ৰিটেনচন আৰু ৰিড্ৰেচল
4. প্ৰশিক্ষণ আৰু কৰ্মচাৰীৰ বিকাশ

Options :

485584146257. 1
485584146258. 2
485584146259. 3
485584146260. 4

Question Number : 181 Question Id : 48558436566 Question Type : MCQ Option Shuffling : No Is Question Mandatory : No Calculator : None Response Time : N.A Think Time : N.A Minimum Instruction Time : 0

Correct Marks : 5 Wrong Marks : 1

Question Key Details :

Key	Value
Comprehension	MCQ

A diet can be modified to meet the medical needs of a patient through which of the following?

- A. Changing consistency and/or texture
- B. Adding supplements
- C. Increase or decrease in the amount of one or more nutrients
- D. Increase or decrease in calorie intake
- E. Making an all fruit diet

Choose the correct answer from the options given below:

- 1. A, B and E only
- 2. A, C and E only
- 3. B, C and D only
- 4. A, C and D only

Options :

- 485584146261. 1
- 485584146262. 2
- 485584146263. 3
- 485584146264. 4

Question Number : 181 Question Id : 48558436566 Question Type : MCQ Option Shuffling : No Is Question Mandatory : No Calculator : None Response Time : N.A Think Time : N.A Minimum Instruction Time : 0

Correct Marks : 5 Wrong Marks : 1

Question Key Details :

Key	Value
Comprehension	MCQ

এজন ব্যক্তিৰ চিকিৎসাসম্পৰ্কীয় প্ৰয়োজন পূৰণৰ বাবে খাদ্য সলনি কৰিব পৰা যায়?

- A. ভৌতিক অৱস্থা বা টেঞ্জচাৰ সলনি কৰি
- B. পৰিপূৰক দ্ৰব্য যোগ কৰি
- C. পোষক দ্ৰব্যৰ পৰিমাণ বৃদ্ধি বা হ্রাস কৰি
- D. কেলৰি পৰিমাণ বৃদ্ধি বা হ্রাস কৰি
- E. ফলসৰ্বস্ব খাদ্য প্ৰস্তুত কৰি

তলৰ বিকল্পসমূহৰ পৰা শুদ্ধ উত্তৰটো বাছি উলিওৱা

- 1. মাত্ৰ A, B আৰু E
- 2. মাত্ৰ A, C আৰু E
- 3. মাত্ৰ B, C আৰু D
- 4. মাত্ৰ A, C আৰু D

Options :

- 485584146261. 1
- 485584146262. 2
- 485584146263. 3
- 485584146264. 4

Question Number : 182 Question Id : 48558436567 Question Type : MCQ Option Shuffling : No Is Question Mandatory : No Calculator : None Response Time : N.A Think Time : N.A Minimum Instruction Time : 0

Correct Marks : 5 Wrong Marks : 1

Question Key Details :

Key	Value
Comprehension	MCQ

Shreya wants to design a dress by incorporating rhythm design principle. Which of the following can NOT be used to create rhythm?

- 1. Use of contrasting colours
- 2. Cordation
- 3. Radiation
- 4. Parallelism

Options :

- 485584146265. 1
- 485584146266. 2
- 485584146267. 3
- 485584146268. 4

Question Number : 182 Question Id : 48558436567 Question Type : MCQ Option Shuffling : No Is Question Mandatory : No Calculator : None Response Time : N.A Think Time : N.A Minimum Instruction Time : 0

Correct Marks : 5 Wrong Marks : 1

Question Key Details :

Key	Value
Comprehension	MCQ

ছন্দ (rhythm) সৃষ্টিৰ বাবে শ্ৰেয়াই এযোৰ পোচাক ডিজাইন কৰিব বিচাৰিছে। ছন্দ (rhythm) সৃষ্টিৰ বাবে তলৰ কোনটো পদ্ধতি শুদ্ধ?

1. বিসদৃশ ৰংৰ ব্যবহার
2. কৰ্ডেচন
3. বিকিৰণ (Radiation)
4. সমান্তৰালবাদ (Parallelism)

Options :

485584146265. 1
485584146266. 2
485584146267. 3
485584146268. 4

Question Number : 183 Question Id : 48558436568 Question Type : MCQ Option Shuffling : No Is Question Mandatory : No Calculator : None Response Time : N.A Think Time : N.A Minimum Instruction Time : 0

Correct Marks : 5 Wrong Marks : 1

Question Key Details :

Key	Value
Comprehension	MCQ

Identify the aspects relating to care and maintenance of fabrics:

- A. Keeping the material free of physical damage
- B. Discard clothes if any damage occurs
- C. Refreshing or retaining the appearance by removing stains and dirt
- D. Retaining the textural and visual characteristics
- E. Changing the visual characteristics

Choose the correct answer from the options given below:

1. A, B and C only
2. B, C and D only
3. C, D and E only
4. A, C and D only

Options :

485584146269. 1
485584146270. 2
485584146271. 3
485584146272. 4

Question Number : 183 Question Id : 48558436568 Question Type : MCQ Option Shuffling : No Is Question Mandatory : No Calculator : None Response Time : N.A Think Time : N.A Minimum Instruction Time : 0

Correct Marks : 5 Wrong Marks : 1

Question Key Details :

Key	Value
Comprehension	MCQ

কাপোৰৰ যতন আৰু ৰক্ষণৰ দিশসমূহ চিনাক্ত কৰা।

- বস্তুটো ভৌতিক ক্ষতিৰ পৰা বচাই ৰখা
- কোনো ক্ষতি হ'লে কাপোৰ পেলাই দিয়া
- দাগ আৰু মলি দূৰ কৰি কাপোৰ দেখাত সতেজ কৰি ৰখা বা অৱয়ব বজাই ৰখা
- গঠনাত্মক (textural) আৰু দৃশ্যমান গুণাগুণবোৰ বজায় ৰখা
- দৃশ্যমান গুণাগুণবোৰ পৰিৱৰ্তন কৰা

ভলৰ বিকল্পসমূহৰ পৰা শুদ্ধ উত্তৰটো বাছি উলিওৱা

- মাত্ৰ A, B আৰু C
- মাত্ৰ B, C আৰু D
- মাত্ৰ C, D আৰু E
- মাত্ৰ A, C আৰু D

Options :

485584146269. 1
485584146270. 2
485584146271. 3
485584146272. 4

Question Number : 184 Question Id : 48558436569 Question Type : MCQ Option Shuffling : No Is Question Mandatory : No Calculator : None Response Time : N.A Think Time : N.A Minimum Instruction Time : 0

Correct Marks : 5 Wrong Marks : 1

Question Key Details :

Key	Value
Comprehension	MCQ

Which of the following does NOT fall under the category of straight lines ?

- Vertical
- Zig-zag
- Horizontal
- Diagonal

Options :

485584146273. 1
485584146274. 2
485584146275. 3
485584146276. 4

Question Number : 184 Question Id : 48558436569 Question Type : MCQ Option Shuffling : No Is Question Mandatory : No Calculator : None Response Time : N.A Think Time : N.A Minimum Instruction Time : 0

Correct Marks : 5 Wrong Marks : 1

Question Key Details :

Key	Value
Comprehension	MCQ

তলৰ কোনটো সকল বেখাৰ শ্ৰেণীত নপৰে ?

1. উলম্ব (Vertical)
2. একা-বেকা (Zig-zag)
3. আনুভূমিক (Horizontal)
4. কৰ্ণীয় (Diagonal)

Options :

485584146273. 1
485584146274. 2
485584146275. 3
485584146276. 4

Question Number : 185 Question Id : 48558436570 Question Type : MCQ Option Shuffling : No Is Question Mandatory : No Calculator : None Response Time : N.A Think Time : N.A Minimum Instruction Time : 0

Correct Marks : 5 Wrong Marks : 1

Question Key Details :

Key	Value
Comprehension	MCQ

Match List I with List II

LIST I (Processed foods)		LIST II (Examples)	
A.	Preserved foods	I.	Low sodium salt
B.	Manufactured foods	II.	Canned fruits
C.	Formulated foods	III.	Papads
D.	Medical foods	IV.	Ice creams

Choose the correct answer from the options given below:

1. A-I, B-II, C-III, D-IV
2. A-II, B-III, C-I, D-IV
3. A-III, B-II, C-I, D-IV
4. A-II, B-III, C-IV, D-I

Options :

485584146277. 1
485584146278. 2
485584146279. 3
485584146280. 4

Question Number : 185 Question Id : 48558436570 Question Type : MCQ Option Shuffling : No Is Question Mandatory : No Calculator : None Response Time : N.A Think Time : N.A Minimum Instruction Time : 0

Correct Marks : 5 Wrong Marks : 1

Question Key Details :

Key	Value
Comprehension	MCQ

তালিকা I ৰ লগত তালিকা II মিলোৱা

তালিকা I (খাদ্য)		তালিকা II (উদাহৰণ)	
A.	সংৰক্ষিত খাদ্য (Preserved foods)	I.	কম ছুডিয়ামযুক্ত নিমখ
B.	উৎপাদিত খাদ্য (Manufactured foods)	II.	চিন্তিত ৰখা খাদ্য
C.	প্ৰস্তুত কৰা খাদ্য (Formulated foods)	III.	পাপৰ
D.	চিকিৎসা জড়িত খাদ্য (Medical foods)	IV.	আইচ ক্ৰিম

তলৰ বিকল্পসমূহৰ পৰা শুদ্ধ উত্তৰটো বাছি উলিওৱা

1. A-I, B-II, C-III, D-IV
2. A-II, B-III, C-I, D-IV
3. A-III, B-II, C-I, D-IV
4. A-II, B-III, C-IV, D-I

Options :

485584146277. 1
485584146278. 2
485584146279. 3
485584146280. 4

Question Number : 186 Question Id : 48558436571 Question Type : MCQ Option Shuffling : No Is Question Mandatory : No Calculator : None Response Time : N.A Think Time : N.A Minimum Instruction Time : 0

Correct Marks : 5 Wrong Marks : 1

Question Key Details :

Key	Value
Comprehension	MCQ

Match List I with List II

LIST I (Terms)	LIST II (Explanation)
A. Food Quality	I. Assurance that food will not cause any harm to the consumers
B. Toxicity	II. Relative probability that harm or injury will result when substance is not used in prescribed manner and quantity
C. Food Safety	III. Capacity of a substance to produce harm or injury of any kind under any conditions
D. Hazard	IV. Attributes that influence a product's value to consumers

Choose the correct answer from the options given below:

1. A-IV, B-III, C-I, D-II
2. A-I, B-II, C-III, D-IV
3. A-I, B-IV, C-II, D-III
4. A-IV, B-III, C-II, D-I

Options :

485584146281. 1
485584146282. 2
485584146283. 3
485584146284. 4

Question Number : 186 Question Id : 48558436571 Question Type : MCQ Option Shuffling : No Is Question Mandatory : No Calculator : None Response Time : N.A Think Time : N.A Minimum Instruction Time : 0

Correct Marks : 5 Wrong Marks : 1

Question Key Details :

Key	Value
Comprehension	MCQ

তালিকা I ৰ সৈতে তালিকা II মিলোৱা

তালিকা I (বাৰ্ণি/পদ)	তালিকা II (ব্যাখ্যা)
A. খাদ্যৰ গুণাগুণ	I. খাদ্যই অনিষ্ট নকৰাকৈ নিশ্চিত কৰে
B. বিষক্রিয়া	II. অনুমোদিতধৰণে ব্যৱহাৰ নকৰাৰ ফলত ক্ষতি বা প্ৰভাৱ পৰাৰ আপেক্ষিক সম্ভাৱনা
C. খাদ্য সুৰক্ষা	III. পদাৰ্থ এটাই ক্ষতি কৰিব পৰা ক্ষমতা
D. বিপদ (Hazard)	IV. উপভোক্তাৰ কাৰণে পৰা এটাৰ মূল্য প্ৰভাৱিত কৰিব পৰা বৈশিষ্ট্যসমূহ

তলৰ বিকল্পসমূহৰ পৰা শুদ্ধ উত্তৰটো বাছি উলিওৱা

1. A-IV, B-III, C-I, D-II
2. A-I, B-II, C-III, D-IV
3. A-I, B-IV, C-II, D-III
4. A-IV, B-III, C-II, D-I

Options :

485584146281. 1

485584146282. 2
485584146283. 3
485584146284. 4

Question Number : 187 Question Id : 48558436572 Question Type : MCQ Option Shuffling : No Is Question Mandatory : No Calculator : None Response Time : N.A Think Time : N.A Minimum Instruction Time : 0

Correct Marks : 5 Wrong Marks : 1

Question Key Details :

Key	Value
Comprehension	MCQ

Match List I with List II

LIST I (Extension Projects)		LIST II (Communication tools used)	
A.	RRE	I.	Satellite
B.	SEWA	II.	Print media
C.	Project Village Chhatara	III.	Campaign
D.	EDUSAI	IV.	ICT

Choose the correct answer from the options given below:

1. A-II, B-I, C-IV, D-III
2. A-IV, B-I, C-III, D-II
3. A-III, B-IV, C-II, D-I
4. A-II, B-III, C-I, D-IV

Options :

485584146285. 1
485584146286. 2
485584146287. 3
485584146288. 4

Question Number : 187 Question Id : 48558436572 Question Type : MCQ Option Shuffling : No Is Question Mandatory : No Calculator : None Response Time : N.A Think Time : N.A Minimum Instruction Time : 0

Correct Marks : 5 Wrong Marks : 1

Question Key Details :

Key	Value
Comprehension	MCQ

তালিকা I ৰ সৈতে তালিকা II মিলোৱা

তালিকা I (বিস্তাৰিত প্ৰকল্প)		তালিকা II (যোগাযোগৰ আহিলা)	
A.	RRE	I.	কৃত্ৰিম উপগ্ৰহ
B.	SEWA	II.	ছপা মাধ্যম
C.	চট্টোৰাগাওঁ প্ৰকল্প	III.	প্ৰচাৰ
D.	EDUSAT	IV.	ICT

তলৰ বিকল্পসমূহৰ পৰা শুদ্ধ উত্তৰটো বাছি উলিওৱা

1. A-II, B-I, C-IV, D-III
2. A-IV, B-I, C-III, D-II
3. A-III, B-IV, C-II, D-I
4. A-II, B-III, C-I, D-IV

Options :

485584146285. 1
485584146286. 2
485584146287. 3
485584146288. 4

Question Number : 188 Question Id : 48558436573 Question Type : MCQ Option Shuffling : No Is Question Mandatory : No Calculator : None Response Time : N.A Think Time : N.A Minimum Instruction Time : 0

Correct Marks : 5 Wrong Marks : 1

Question Key Details :

Key	Value
Comprehension	MCQ

Match List I with List II

LIST I (Terms)		LIST II (Description)	
A.	Quality Assurance	I.	Process of implementation and monitoring of quality systems like TQM, ISO
B.	Quality control	II.	Process of problem solving with the purpose of getting a 'zero-defect' product
C.	Quality Management	III.	Characteristics of the product that are given by the buyer or desired by the consumer
D.	Specifications	IV.	Process of preventive problem management

Choose the correct answer from the options given below:

1. A-IV, B-II, C-I, D-III
2. A-IV, B-I, C-II, D-III
3. A-IV, B-II, C-III, D-I
4. A-I, B-II, C-IV, D-III

Options :

485584146289. 1

485584146290. 2
485584146291. 3
485584146292. 4

Question Number : 188 Question Id : 48558436573 Question Type : MCQ Option Shuffling : No Is Question Mandatory :
No Calculator : None Response Time : N.A Think Time : N.A Minimum Instruction Time : 0

Correct Marks : 5 Wrong Marks : 1

Question Key Details :

Key	Value
Comprehension	MCQ

তালিকা I ৰ সৈতে তালিকা II মিলোৱা

তালিকা I (পদ/বাশি)	তালিকা II (বিৱৰণ)
A. গুণমান নিশ্চিতকৰণ	I. গুণমান ব্যৱস্থাৰ কপায়ন আৰু নিৰীক্ষণ
B. গুণমান নিয়ন্ত্ৰণ	II. ক্ৰটিবিহীন পন্য পাবৰ বাবে সমস্যা সমাধানৰ পদ্ধতি
C. গুণমান ব্যৱস্থাপনা	III. গ্ৰাহকে দিয়া ত্ৰুটিপূৰ্ণ সামগ্ৰীৰ বৈশিষ্ট্যবোৰ
D. বৈশিষ্ট্যসমূহ (Specifications)	IV. প্ৰতিবোধমূলক সমস্যা ব্যৱস্থাপনাৰ প্ৰক্ৰিয়া

তলৰ বিকল্পসমূহৰ পৰা শুদ্ধ উত্তৰটো বাছি উলিওৱা

1. A-IV, B-II, C-I, D-III
2. A-IV, B-I, C-II, D-III
3. A-IV, B-II, C-III, D-I
4. A-I, B-II, C-IV, D-III

Options :

485584146289. 1
485584146290. 2
485584146291. 3
485584146292. 4

Question Number : 189 Question Id : 48558436574 Question Type : MCQ Option Shuffling : No Is Question Mandatory :
No Calculator : None Response Time : N.A Think Time : N.A Minimum Instruction Time : 0

Correct Marks : 5 Wrong Marks : 1

Question Key Details :

Key	Value
Comprehension	MCQ

Match List I with List II

LIST I (Designations)		LIST II (Duties)	
A.	Head waiter	I.	Reserves, registers and assign rooms to guests
B.	Chef-de-cuisine	II.	Supervisors for some sections of the kitchen
C.	Receptionist	III.	Lead a team of waiters/stewards
D.	Chef-de-parties	IV.	Planning, organising and controlling the kitchen operations

Choose the correct answer from the options given below:

1. A-III, B-IV, C-I, D-II
2. A-II, B-IV, C-III, D-I
3. A-I, B-II, C-III, D-IV
4. A-IV, B-II, C-I, D-III

Options :

485584146293. 1
485584146294. 2
485584146295. 3
485584146296. 4

Question Number : 189 Question Id : 48558436574 Question Type : MCQ Option Shuffling : No Is Question Mandatory : No Calculator : None Response Time : N.A Think Time : N.A Minimum Instruction Time : 0

Correct Marks : 5 Wrong Marks : 1

Question Key Details :

Key	Value
Comprehension	MCQ

তালিকা I ৰ সৈতে তালিকা II মিলোৱা

তালিকা I (পদবী)		তালিকা II (দায়িত্ব)	
A.	প্ৰধান পৰিচালক	I.	অতিৰিক্ত কক্ষ দিয়া, কক্ষ পাঞ্জিয়ন কৰা
B.	চেফ-দি-কুইজিন	II.	পাক ঘৰৰ কিছু অংশ পৰিচালনা কৰা
C.	অভ্যর্থনাকৰী (Receptionist)	III.	পৰিচালকৰ কৰ্ম দলক নেতৃত্ব দিয়া
D.	চেফ-দি-পাৰ্টিজ (Chef- de-parties)	IV.	Planning, organising and controlling the kitchen operations পাক ঘৰৰ কাৰ্য্যৰ পৰিকল্পনা, বাবস্থা আৰু নিয়ন্ত্ৰণ কৰা

তলৰ বিকল্পমূহৰ পৰা শুদ্ধ উত্তৰটো বাছি উলিওৱা

1. A-III, B-IV, C-I, D-II
2. A-II, B-IV, C-III, D-I
3. A-I, B-II, C-III, D-IV
4. A-IV, B-II, C-I, D-III

Options :

485584146293. 1
485584146294. 2
485584146295. 3
485584146296. 4

Question Number : 190 Question Id : 48558436575 Question Type : MCQ Option Shuffling : No Is Question Mandatory : No Calculator : None Response Time : N.A Think Time : N.A Minimum Instruction Time : 0

Correct Marks : 5 Wrong Marks : 1

Question Key Details :

Key	Value
Comprehension	MCQ

Match List I with List II

LIST I (Programme)	LIST II (Target group)	
A. ICDS	I.	Children under 18 years of age
B. SOS	II.	College going students
C. Special homes	III.	Children below six years of age
D. NSS	IV.	Needy/abandoned children

Choose the correct answer from the options given below:

1. A-I, B-IV, C-II, D-I
2. A-IV, B-III, C-I, D-II
3. A-III, B-IV, C-I, D-II
4. A-IV, B-III, C-II, D-I

Options :

485584146297. 1
485584146298. 2
485584146299. 3
485584146300. 4

Question Number : 190 Question Id : 48558436575 Question Type : MCQ Option Shuffling : No Is Question Mandatory : No Calculator : None Response Time : N.A Think Time : N.A Minimum Instruction Time : 0

Correct Marks : 5 Wrong Marks : 1

Question Key Details :

Key	Value
Comprehension	MCQ

তালিকা I ৰ সৈতে তালিকা II মিলোৱা

তালিকা I (আঁচনি)	তালিকা II (লক্ষ্য গোট)
A. ICDS	I. 18 বছৰৰ তলৰ শিশু
B. SOS	II. কলেজীয়া ছাত্ৰ-ছাত্ৰী
C. Special homes	III. ছয় বছৰৰ তলৰ শিশু
D. NSS	IV. আৰ্ত্ত/পৰিত্যক্ত শিশু

তলৰ বিকল্পসমূহৰ পৰা শুদ্ধ উত্তৰটো বাছি উলিওৱা

1. A-I, B-IV, C-II, D-I
2. A-IV, B-III, C-I, D-II
3. A-III, B-IV, C-I, D-II
4. A-IV, B-III, C-II, D-I

Options :

485584146297. 1
485584146298. 2
485584146299. 3
485584146300. 4

Sub-Section Number :

2

Sub-Section Id :

4855842700

Question Shuffling Allowed :

No

Is Section Default? :

null

Question Number : 191 Question Id : 48558436576 Question Type : MCQ Option Shuffling : No Is Question Mandatory : No Calculator : None Response Time : N.A Think Time : N.A Minimum Instruction Time : 0

Correct Marks : 5 Wrong Marks : 1

Question Key Details :

Key	Value
Comprehension	Comp1

Read the passage carefully. Attempt Question

Anganwadi Centers (AWCs) are the most common and publicly available facilities, initially constituted in 1975 to strengthen the public health system by providing immunization and health check-ups, and later to provide supplementary nutrition non-formal pre-school education and day-care.

The two key elements of early childhood development include education and health. A child's early years (0 to 8 years) form the foundation of all learning and are therefore the most extraordinary period of development in a child's life. Research has shown that greater cognitive abilities and being developmentally on track with literacy and numeracy in childhood provide for better learning in school and higher educational attainment, leading to major social and economic gains for society in the long run. Similarly, providing children with a nurturing environment in early years, with adequate nutrition, hygiene, protection and responsive stimulation, boosts healthy childhood development and delivers positive outcomes.

The Anganwadi centers were started in which year in India?

1. 1975
2. 1980
3. 1982
4. 1984

Options :

485584146301. 1
485584146302. 2
485584146303. 3
485584146304. 4

Question Number : 191 Question Id : 48558436576 Question Type : MCQ Option Shuffling : No Is Question Mandatory : No Calculator : None Response Time : N.A Think Time : N.A Minimum Instruction Time : 0

Correct Marks : 5 Wrong Marks : 1

Question Key Details :

Key	Value
Comprehension	Comp1

পাঠ্যংশটো সারধানে পঢ়া। 41-45 লৈ প্রশ্নকেইটাৰ উত্তৰ লিখা।

অংগনবাড়ী কেন্দ্ৰবোৰ (AWSC) 1975 চনত প্ৰতিবেধক আৰু স্বাস্থ্যপৰীক্ষাৰ ব্যৱস্থা কৰি জনস্বাস্থ্য ব্যৱস্থা শক্তিশালী কৰিবলৈ আৰু পিছলৈ পৰিপূৰক পুষ্টিকৰ, আনুষ্ঠানিক প্ৰাক্-বিদ্যালয় শিক্ষা আৰু দিনৰ ভাগত যত্ন প্ৰদানৰ বাবে গঠন কৰা হৈছিল। কিন্তু AWC ব্যৱস্থাৰ দুৰ্বলতা আৰু তাত প্ৰদান কৰা সেৱাৰ নিম্নমানৰ বিষয়ে ভালদৰে নথিভুক্ত কৰা হৈছে। আজিৰ তাৰিখত আটাইতকৈ কম সম্পদশালী পৰিয়ালবোৰৰ 51% সন্তান AWC কেন্দ্ৰবোৰলৈ যায়, আনহাতে শীৰ্ষ 20% ঘৰৰ আধাতকৈও অধিক শিশু ব্যক্তিগত যত্নসেৱাৰ সুবিধা লয়। দেশৰ AWC সেৱাৰ এই দুৰ্বল আৰু অসমমিত ব্যৱস্থাৰ মানৰ মূলধন সূচকাংক (2020 চনত 174 খন দেশৰ ভিতৰত 116 তম স্থান) আৰু লগতে বিশ্বক্ষুধা সূচকাংকত (2020 চনত 107 খন দেশৰ ভিতৰত 94 তম স্থান) ভাৰতৰ স্থান অতি দুৰ্বল বুলি প্ৰমাণিত হৈছে।

শিশুৰ প্ৰাথমিক বিকাশৰ দুটা মূল উপাদান হ'ল শিক্ষা আৰু স্বাস্থ্য। শৈশৱৰ প্ৰথম বছৰকেইটাত (0-8 বছৰ) সকলো শিক্ষণৰ ভেটি গঠন হয় আৰু সেয়েহে এইখিনিয়েই হ'ল শিশু এটাৰ জীৱনৰ বিকাশৰ অতি গুৰুত্বপূৰ্ণ সময়। গৱেষণাৰ পৰা দেখা গৈছে যে, অধিক জ্ঞানমূলক ক্ষমতা আৰু শৈশৱত স্বাস্থ্যৰতা আৰু সংখ্যাৰ সৈতে বিকাশৰ দিশ থকাটোৱে স্কুলত উন্নত শিক্ষণ আৰু উচ্চ শিক্ষাৰ অৰ্হতাৰ সুবিধা প্ৰদান কৰে, যাৰ ফলত সমাজৰ দীৰ্ঘম্যাদী সামাজিক আৰু অৰ্থনৈতিক লাভৰ সৃষ্টি হয়। একেদৰে, শিশুসকলক প্ৰাৰম্ভিক বছৰবোৰত লালন-পালন কৰা পৰিবেশ, পৰ্যাপ্ত পুষ্টি, পৰিষ্কাৰ-পৰিচ্ছন্নতা, সুৰক্ষা আৰু প্ৰতিক্ৰিয়াশীল উদ্দীপনা প্ৰদান কৰিলে শৈশৱৰ সুস্থ বিকাশ বৃদ্ধি পায় আৰু ইতিবাচক ফলাফল পোৱা যায়।

ভাৰতত অংগনবাতী কেন্দ্ৰবোৰ কেতিয়া আৰম্ভ হৈছিল?

1. 1975
2. 1980
3. 1982
4. 1984

Options :

485584146301. 1
485584146302. 2
485584146303. 3
485584146304. 4

Question Number : 192 Question Id : 48558436577 Question Type : MCQ Option Shuffling : No Is Question Mandatory : No Calculator : None Response Time : N.A Think Time : N.A Minimum Instruction Time : 0

Correct Marks : 5 Wrong Marks : 1

Question Key Details :

Key	Value
Comprehension	Comp1

Read the passage carefully. Attempt Question

Anganwadi Centers (AWCs) are the most common and publicly available facilities, initially constituted in 1975 to strengthen the public health system by providing immunization and health check-ups, and later to provide supplementary nutrition non-formal pre-school education and day-care.

The two key elements of early childhood development include education and health. A child's early years (0 to 8 years) form the foundation of all learning and are therefore the most extraordinary period of development in a child's life. Research has shown that greater cognitive abilities and being developmentally on track with literacy and numeracy in childhood provide for better learning in school and higher educational attainment, leading to major social and economic gains for society in the long run. Similarly, providing children with a nurturing environment in early years, with adequate nutrition, hygiene, protection and responsive stimulation, boosts healthy childhood development and delivers positive outcomes.

Identify the functions of the Anganvadi centres from the following:

- A. Providing immunisation
- B. Supplementary nutrition
- C. Non-formal pre-school education
- D. Supporting children in doing home-work after school

Choose the correct answer from the options given below:

- 1. B, C and D only
- 2. A, B and D only
- 3. A, B and C only
- 4. A, D and C only

Options :

- 485584146305. 1
- 485584146306. 2
- 485584146307. 3
- 485584146308. 4

Question Number : 192 Question Id : 48558436577 Question Type : MCQ Option Shuffling : No Is Question Mandatory : No Calculator : None Response Time : N.A Think Time : N.A Minimum Instruction Time : 0

Correct Marks : 5 Wrong Marks : 1

Question Key Details :

Key	Value
Comprehension	Comp1

পাঠ্যশেট সারধানে পঢ়। 41-45 লৈ প্রশ্নকেইটাৰ উত্তৰ লিখ।

অংগনবাসী কেন্দ্ৰবোৰ (AWSc) 1975 চনত প্ৰতিবেধক আৰু স্বাস্থ্য পৰীক্ষাৰ ব্যৱস্থা কৰি জনস্বাস্থ্য ব্যৱস্থা শক্তিশালী কৰিবলৈ আৰু পিছলৈ পৰিপূৰক পুষ্টিকৰ, আনুষ্ঠানিক প্ৰাক-বিদ্যালয় শিক্ষা আৰু দিনৰ ভাগত যত্ন প্ৰদানৰ বাবে গঠন কৰা হৈছিল। কিন্তু AWC ব্যৱস্থাৰ দুৰ্বলতা আৰু তাত প্ৰদান কৰা সেৱাৰ নিম্নমানৰ বিষয়ে ভালদৰে নথিভুক্ত কৰা হৈছে। আজিৰ তাৰিখত আটাইতকৈ কম সম্পদশালী পৰিয়ালবোৰৰ 51% সন্তান AWC কেন্দ্ৰবোৰলৈ যায়, আনহাতে শীৰ্ষ 20% ঘৰৰ আধাতকৈও অধিক শিশু ব্যক্তিগত যত্নসেৱাৰ সুবিধা লয়। দেশৰ AWC সেৱাৰ এই দুৰ্বল আৰু অসমমিত ব্যৱহাৰ মানৰ মূলধন সূচকাংক (2020 চনত 174 খন দেশৰ ভিতৰত 116 তম স্থান) আৰু লগতে বিশ্বক্ষুধা সূচকাংকত (2020 চনত 107 খন দেশৰ ভিতৰত 94 তম স্থান) ভাৰতৰ স্থান অতি দুৰ্বল বুলি প্ৰমাণিত হৈছে।

শিশুৰ প্ৰাথমিক বিকাশৰ দুটা মূল উপাদান হ'ল শিক্ষা আৰু স্বাস্থ্য। শৈশৱৰ প্ৰথম বছৰকেইটাত (0-8 বছৰ) সকলো শিক্ষণৰ ভেটি গঠন হয় আৰু সেয়েহে এইখিনিয়েই হ'ল শিশু এটাৰ জীৱনৰ বিকাশৰ অতি গুৰুত্বপূৰ্ণ সময়। গৱেষণাৰ পৰা দেখা গৈছে যে, অধিক জ্ঞানমূলক ক্ষমতা আৰু শৈশৱত স্বাস্থ্যৰতা আৰু সংখ্যাৰ সৈতে বিকাশৰ দিশ ধকাটোৱে স্কুলত উন্নত শিক্ষণ আৰু উচ্চ শিক্ষাৰ অৰ্হতাৰ সুবিধা প্ৰদান কৰে, যাৰ ফলত সমাজৰ দীৰ্ঘম্যাদী সামাজিক আৰু অৰ্থনৈতিক লাভৰ সৃষ্টি হয়। একেদৰে, শিশুসকলক প্ৰাৰম্ভিক বছৰবোৰত লালন-পালন কৰা পৰিবেশ, পৰ্যাপ্ত পুষ্টি, পৰিষ্কাৰ-পৰিচ্ছন্নতা, সুৰক্ষা আৰু প্ৰতিক্ৰিয়াশীল উদ্দীপনা প্ৰদান কৰিলে শৈশৱৰ সুস্থ বিকাশ বৃদ্ধি পায় আৰু ইতিবাচক ফলাফল পোৱা যায়।

অংগনবাড়ী ব্যৱস্থাৰ কাৰ্যবোৰ হ'ল

- A. টীকাৰণ
- B. পৰিপূৰকমূল পুষ্টি
- C. অনানুষ্ঠানিক প্ৰাক বিদ্যালয়
- D. বিদ্যালয় শেষ হোৱাৰ পিছত ল'ৰা-ছোৱালীক হ'ম-ৱৰ্কত সহায় কৰা

তলৰ বিকল্পসমূহৰ গৰা শুদ্ধ উত্তৰটো বাছি উলিওৱা

- 1. মাত্ৰ B, C আৰু D
- 2. মাত্ৰ A, B আৰু D
- 3. মাত্ৰ A, B আৰু C
- 4. মাত্ৰ A, D আৰু C

Options :

- 485584146305. 1
- 485584146306. 2
- 485584146307. 3
- 485584146308. 4

Question Number : 193 Question Id : 48558436578 Question Type : MCQ Option Shuffling : No Is Question Mandatory : No Calculator : None Response Time : N.A Think Time : N.A Minimum Instruction Time : 0

Correct Marks : 5 Wrong Marks : 1

Question Key Details :

Key	Value
Comprehension	Comp1

Read the passage carefully. Attempt Question

Anganwadi Centers (AWCs) are the most common and publicly available facilities, initially constituted in 1975 to strengthen the public health system by providing immunization and health check-ups, and later to provide supplementary nutrition non-formal pre-school education and day-care.

The two key elements of early childhood development include education and health. A child's early years (0 to 8 years) form the foundation of all learning and are therefore the most extraordinary period of development in a child's life. Research has shown that greater cognitive abilities and being developmentally on track with literacy and numeracy in childhood provide for better learning in school and higher educational attainment, leading to major social and economic gains for society in the long run. Similarly, providing children with a nurturing environment in early years, with adequate nutrition, hygiene, protection and responsive stimulation, boosts healthy childhood development and delivers positive outcomes.

The two key elements of early childhood development are _____

1. Nutrition and immunisation
2. Health and education
3. School readiness and health
4. Day care and creche

Options :

485584146309. 1
485584146310. 2
485584146311. 3
485584146312. 4

Question Number : 193 Question Id : 48558436578 Question Type : MCQ Option Shuffling : No Is Question Mandatory : No Calculator : None Response Time : N.A Think Time : N.A Minimum Instruction Time : 0

Correct Marks : 5 Wrong Marks : 1

Question Key Details :

Key	Value
Comprehension	Comp1

পাঠ্যংশটো সারণানে পঢ়া। 41-45 লৈ প্রশ্নকেইটাৰ উত্তৰ লিখা।

অংগনবাড়ী কেন্দ্ৰবোৰ (AWSc) 1975 চনত প্ৰতিবেধক আৰু স্বাস্থ্য পৰীক্ষাৰ ব্যৱস্থা কৰি জনস্বাস্থ্য ব্যৱস্থা শক্তিশালী কৰিবলৈ আৰু পিছলৈ পৰিপূৰক পুষ্টিকৰ, আনুষ্ঠানিক প্ৰাক্-বিদ্যালয় শিক্ষা আৰু দিনৰ ভাগত যত্ন প্ৰদানৰ বাবে গঠন কৰা হৈছিল। কিন্তু AWC ব্যৱস্থাৰ দুৰ্বলতা আৰু তাত প্ৰদান কৰা সেৱাৰ নিম্নমানৰ বিষয়ে ভালদৰে নথিভুক্ত কৰা হৈছে। আজিৰ তাৰিখত আটাইতকৈ কম সম্পদশালী পৰিয়ালবোৰৰ 51% সন্তান AWC কেন্দ্ৰবোৰলৈ যায়, আনহাতে শীৰ্ষ 20% ঘৰৰ আধাতকৈও অধিক শিশু ব্যক্তিগত যত্নসেৱাৰ সুবিধা লয়। দেশৰ AWC সেৱাৰ এই দুৰ্বল আৰু অসমমিত ব্যৱহাৰ মানৰ মূলধন সূচকাংক (2020 চনত 174 খন দেশৰ ভিতৰত 116 তম স্থান) আৰু লগতে বিশ্বক্ষুধা সূচকাংকত (2020 চনত 107 খন দেশৰ ভিতৰত 94 তম স্থান) ভাৰতৰ স্থান অতি দুৰ্বল বুলি প্ৰমাণিত হৈছে।

শিশুৰ প্ৰাথমিক বিকাশৰ দুটা মূল উপাদান হ'ল শিক্ষা আৰু স্বাস্থ্য। শৈশৱৰ প্ৰথম বছৰকেইটাত (0-8 বছৰ) সকলো শিক্ষণৰ ভেটি গঠন হয় আৰু সেয়েহে এইখিনিয়েই হ'ল শিশু এটাৰ জীৱনৰ বিকাশৰ অতি গুৰুত্বপূৰ্ণ সময়। গৱেষণাৰ পৰা দেখা গৈছে যে, অধিক জ্ঞানমূলক ক্ষমতা আৰু শৈশৱত স্বাস্থ্যৰতা আৰু সংখ্যাৰ সৈতে বিকাশৰ দিশ থকাটোৱে স্কুলত উন্নত শিক্ষণ আৰু উচ্চ শিক্ষাৰ অৰ্থতাৰ সুবিধা প্ৰদান কৰে, যাৰ ফলত সমাজৰ দীৰ্ঘম্যাদী সামাজিক আৰু অৰ্থনৈতিক লাভৰ সৃষ্টি হয়। একেদৰে, শিশুসকলক প্ৰাৰম্ভিক বছৰবোৰত লালন-পালন কৰা পৰিবেশ, পৰ্যাপ্ত পুষ্টি, পৰিষ্কাৰ-পৰিচ্ছন্নতা, সুৰক্ষা আৰু প্ৰতিক্ৰিয়াশীল উদ্দীপনা প্ৰদান কৰিলে শৈশৱৰ সুস্থ বিকাশ বৃদ্ধি পায় আৰু ইতিবাচক ফলাফল পোৱা যায়।

শিশুৰ প্ৰাথমিক বা আৰম্ভণিৰ বিকাশৰ মুখ্য উপাদান দুটা হ'লঃ

1. পুষ্টি আৰু টীকাৰণ
2. স্বাস্থ্য আৰু শিক্ষা
3. বিদ্যালয়ৰ বাবে সাজু আৰু স্বাস্থ্য
4. দিনৰ ভাগৰ যতন আৰু শিশু যতন কেন্দ্ৰ

Options :

485584146309. 1
485584146310. 2
485584146311. 3
485584146312. 4

Question Number : 194 Question Id : 48558436579 Question Type : MCQ Option Shuffling : No Is Question Mandatory : No Calculator : None Response Time : N.A Think Time : N.A Minimum Instruction Time : 0

Correct Marks : 5 Wrong Marks : 1

Question Key Details :

Key	Value
Comprehension	Comp1

Read the passage carefully. Attempt Question

Anganwadi Centers (AWCs) are the most common and publicly available facilities, initially constituted in 1975 to strengthen the public health system by providing immunization and health check-ups, and later to provide supplementary nutrition non-formal pre-school education and day-care.

The two key elements of early childhood development include education and health. A child's early years (0 to 8 years) form the foundation of all learning and are therefore the most extraordinary period of development in a child's life. Research has shown that greater cognitive abilities and being developmentally on track with literacy and numeracy in childhood provide for better learning in school and higher educational attainment, leading to major social and economic gains for society in the long run. Similarly, providing children with a nurturing environment in early years, with adequate nutrition, hygiene, protection and responsive stimulation, boosts healthy childhood development and delivers positive outcomes.

The period of laying the foundation of all learning and rapid development during early childhood development is _____.

1. 3 to 6 years
2. 0 to 8 years
3. 1 to 2 years
4. 0 to 2 years

Options :

485584146313. 1
485584146314. 2

485584146315. 3

485584146316. 4

Question Number : 194 Question Id : 48558436579 Question Type : MCQ Option Shuffling : No Is Question Mandatory : No Calculator : None Response Time : N.A Think Time : N.A Minimum Instruction Time : 0

Correct Marks : 5 Wrong Marks : 1

Question Key Details :

Key	Value
Comprehension	Comp1

পাঠ্যশেটো সারধানে পঢ়। 41-45 লৈ প্রশ্নকেইটাৰ উত্তৰ লিখ।

অংগনবাসী কেন্দ্ৰবোৰ (AWSc) 1975 চনত প্ৰতিবেধক আৰু স্বাস্থ্যপৰীক্ষাৰ ব্যৱস্থা কৰি জনস্বাস্থ্য ব্যৱস্থা শক্তিশালী কৰিবলৈ আৰু পিছলৈ পৰিপূৰক পুষ্টিকৰ, আনুষ্ঠানিক প্ৰাক্-বিদ্যালয় শিক্ষা আৰু দিনৰ ভাগত যত্ন প্ৰদানৰ বাবে গঠন কৰা হৈছিল। কিন্তু AWC ব্যৱস্থাৰ দুৰ্বলতা আৰু তাত প্ৰদান কৰা সেৱাৰ নিম্নমানৰ বিষয়ে ভালদৰে নথিভুক্ত কৰা হৈছে। আজিৰ তাৰিখত আটাইতকৈ কম সম্পদশালী পৰিয়ালবোৰৰ 51% সন্তান AWC কেন্দ্ৰবোৰলৈ যায়, আনহাতে শীৰ্ষ 20% ঘৰৰ আধাতকৈও অধিক শিশু ব্যক্তিগত যত্নসেৱাৰ সুবিধা লয়। দেশৰ AWC সেৱাৰ এই দুৰ্বল আৰু অসমমিত ব্যৱহাৰ মানৰ মূলধন সূচকাংক (2020 চনত 174 খন দেশৰ ভিতৰত 116 তম স্থান) আৰু লগতে বিশ্বক্ষুধা সূচকাংকত (2020 চনত 107 খন দেশৰ ভিতৰত 94 তম স্থান) ভাৰতৰ স্থান অতি দুৰ্বল বুলি প্ৰমাণিত হৈছে।

শিশুৰ প্ৰাথমিক বিকাশৰ দুটা মূল উপাদান হ'ল শিক্ষা আৰু স্বাস্থ্য। শৈশৱৰ প্ৰথম বছৰকেইটাত (0-8 বছৰ) সকলো শিক্ষণৰ ভেটি গঠন হয় আৰু সেয়েহে এইখিনিয়েই হ'ল শিশু এটাৰ জীৱনৰ বিকাশৰ অতি গুৰুত্বপূৰ্ণ সময়। গৱেষণাৰ পৰা দেখা গৈছে যে, অধিক জ্ঞানমূলক ক্ষমতা আৰু শৈশৱত স্বাস্থ্যৰতা আৰু সংখ্যাৰ সৈতে বিকাশৰ দিশ থকাটোৱে স্কুলত উন্নত শিক্ষণ আৰু উচ্চ শিক্ষাৰ অৰ্হতাৰ সুবিধা প্ৰদান কৰে, যাৰ ফলত সমাজৰ দীৰ্ঘম্যাদী সামাজিক আৰু অৰ্থনৈতিক লাভৰ সৃষ্টি হয়। একেদৰে, শিশুসকলক প্ৰাৰম্ভিক বছৰবোৰত লালন-পালন কৰা পৰিবেশ, পৰ্যাপ্ত পুষ্টি, পৰিষ্কাৰ-পৰিচ্ছন্নতা, সুৰক্ষা আৰু প্ৰতিক্ৰিয়াশীল উদ্দীপনা প্ৰদান কৰিলে শৈশৱৰ সুস্থ বিকাশ বৃদ্ধি পায় আৰু ইতিবাচক ফলাফল পোৱা যায়।

শিশুৰ আৰম্ভণিৰ বিকাশৰ ক্ষেত্ৰত দুত বিকাশৰ সময়ছোৱা হ'ল _____।

1. 3 ব পৰা 6 বছৰ
2. 0 ব পৰা 8 বছৰ
3. 1 ব পৰা 2 বছৰ
4. 0 ব পৰা 2 বছৰ

Options :

485584146313. 1

485584146314. 2

485584146315. 3

485584146316. 4

Question Number : 195 Question Id : 48558436580 Question Type : MCQ Option Shuffling : No Is Question Mandatory : No Calculator : None Response Time : N.A Think Time : N.A Minimum Instruction Time : 0

Correct Marks : 5 Wrong Marks : 1

Question Key Details :

Key	Value
Comprehension	Comp1

Read the passage carefully. Attempt Question

Anganwadi Centers (AWCs) are the most common and publicly available facilities, initially constituted in 1975 to strengthen the public health system by providing immunization and health check-ups, and later to provide supplementary nutrition non-formal pre-school education and day-care.

The two key elements of early childhood development include education and health. A child's early years (0 to 8 years) form the foundation of all learning and are therefore the most extraordinary period of development in a child's life. Research has shown that greater cognitive abilities and being developmentally on track with literacy and numeracy in childhood provide for better learning in school and higher educational attainment, leading to major social and economic gains for society in the long run. Similarly, providing children with a nurturing environment in early years, with adequate nutrition, hygiene, protection and responsive stimulation, boosts healthy childhood development and delivers positive outcomes.

To boost healthy childhood and getting positive outcomes in ECCE, which of the following needs to be provided?

- A. Adequate nutrition
- B. Responsive stimulation
- C. Hygiene
- D. Toys and games
- E. Immunisation

Choose the correct answer from the options given below:

- 1. A, B and C only
- 2. A, B and D only
- 3. B, C and D only
- 4. C, D and E only

Options :

- 485584146317. 1
- 485584146318. 2
- 485584146319. 3
- 485584146320. 4

Question Number : 195 Question Id : 48558436580 Question Type : MCQ Option Shuffling : No Is Question Mandatory : No Calculator : None Response Time : N.A Think Time : N.A Minimum Instruction Time : 0

Correct Marks : 5 Wrong Marks : 1

Question Key Details :

Key	Value
Comprehension	Comp1

পাঠ্যংশটো সারণানে পঢ়া। 41-45 লৈ প্রশ্নকেইটাৰ উত্তৰ লিখা।

অংগনবাতী কেন্দ্ৰবোৰ (AWSc) 1975 চনত প্ৰতিবেধক আৰু স্বাস্থ্যপৰীক্ষাৰ ব্যৱস্থা কৰি জনস্বাস্থ্য ব্যৱস্থা শক্তিশালী কৰিবলৈ আৰু পিছলৈ পৰিপূৰক পুষ্টিকৰ, আনুষ্ঠানিক প্ৰাক-বিদ্যালয় শিক্ষা আৰু দিনৰ ভাগত যত্ন প্ৰদানৰ বাবে গঠন কৰা হৈছিল। কিন্তু AWC ব্যৱস্থাৰ দুৰ্বলতা আৰু তাত প্ৰদান কৰা সেৱাৰ নিম্নমানৰ বিষয়ে ভালদৰে নথিভুক্ত কৰা হৈছে। আজিৰ তাৰিখত আটাইতকৈ কম সম্পদশালী পৰিয়ালবোৰৰ 51% সন্তান AWC কেন্দ্ৰবোৰলৈ যায়, আনহাতে শীৰ্ষ 20% ঘৰৰ আধাতকৈও অধিক শিশু ব্যক্তিগত যত্নসেৱাৰ সুবিধা লয়। দেশৰ AWC সেৱাৰ এই দুৰ্বল আৰু অসমমিত ব্যৱস্থাৰ মানৰ মূলধন সূচকাংক (2020 চনত 174 খন দেশৰ ভিতৰত 116 তম স্থান) আৰু লগতে বিশ্বক্ষুধা সূচকাংকত (2020 চনত 107 খন দেশৰ ভিতৰত 94 তম স্থান) ভাৰতৰ স্থান অতি দুৰ্বল বুলি প্ৰমাণিত হৈছে।

শিশুৰ প্ৰাথমিক বিকাশৰ দুটা মূল উপাদান হ'ল শিক্ষা আৰু স্বাস্থ্য। শৈশৱৰ প্ৰথম বছৰকেইটাত (0-8 বছৰ) সকলো শিক্ষণৰ ভেটি গঠন হয় আৰু সেয়েহে এইখিনিয়েই হ'ল শিশু এটাৰ জীৱনৰ বিকাশৰ অতি গুৰুত্বপূৰ্ণ সময়। গৱেষণাৰ পৰা দেখা গৈছে যে, অধিক জ্ঞানমূলক ক্ষমতা আৰু শৈশৱত স্বাস্থ্যৰ আৰু সংখ্যাৰ সৈতে বিকাশৰ দিশ থকাটোৱে জ্বলন্ত উন্নত শিক্ষণ আৰু উচ্চ শিক্ষাৰ অৰ্হতাৰ সুবিধা প্ৰদান কৰে, যাৰ ফলত সমাজৰ দীৰ্ঘম্যাদী সামাজিক আৰু অৰ্থনৈতিক লাভৰ সৃষ্টি হয়। একেদৰে, শিশুসকলক প্ৰাৰম্ভিক বছৰবোৰত লালন-পালন কৰা পৰিবেশ, পৰ্যাপ্ত পুষ্টি, পৰিষ্কাৰ-পৰিচ্ছন্নতা, সুৰক্ষা আৰু প্ৰতিক্ৰিয়াশীল উদ্দীপনা প্ৰদান কৰিলে শৈশৱৰ সুস্থ বিকাশ বৃদ্ধি পায় আৰু ইতিবাচক ফলাফল পোৱা যায়।

ECCE ৰ পৰা ধনাত্মক ফলাফল পাবৰ বাবে, তলৰ প্ৰয়োজন কেইটা গুৰুত্ব দিব লাগিব?

- A. পৰ্যাপ্ত পুষ্টি প্ৰদান
- B. প্ৰতিক্ৰিয়াশীল উদ্দীপনা
- C. পৰিষ্কাৰ পৰিচ্ছন্নতা
- D. পুতলা আৰু খেলা-ধুলাৰ ব্যৱস্থা কৰা
- E. টীকাৰণ

তলৰ বিকল্পসমূহৰ পৰা শুদ্ধ উত্তৰটো বাছি উলিওৱা

- 1. A, B আৰু C মাত্ৰ
- 2. A, B আৰু D মাত্ৰ
- 3. B, C আৰু D মাত্ৰ
- 4. C, D আৰু E মাত্ৰ

Options :

- 485584146317. 1
- 485584146318. 2
- 485584146319. 3
- 485584146320. 4

Sub-Section Number :

3

Sub-Section Id :

4855842701

Question Shuffling Allowed :

No

Is Section Default? :

null

Question Number : 196 Question Id : 48558436581 Question Type : MCQ Option Shuffling : No Is Question Mandatory : No Calculator : None Response Time : N.A Think Time : N.A Minimum Instruction Time : 0

Correct Marks : 5 Wrong Marks : 1

Question Key Details :

Key	Value
Comprehension	Comp2

Read the passage carefully. Attempt Question

Consumers not only purchase products but a whole gamut of services like those of banks, other financial institutions, airlines and travel agencies; hospitals and other medical practitioners; public utilities like garbage collection, cleanliness and maintenance of roads, parks, etc; electricity water telephone, post and telegraph; educational institutions and so on.

Consumers face a number of problems with regard to these services like excessive billing, being charged but not delivering the service, gap between promised level of service and service that is delivered, overstating the service attributes and enticing the consumer, making false claims and so on.

Gap between service delivery and external communication is a consumer issue. Consumer expectations are affected by promises made by the service provider in his external communication which may be through brochures, advertisements, personal selling etc. E.g. If a resort hotel brochure shows a beautiful room but the guests arrive and find the room to be cheap and very ordinary. Many a times people make advance bookings based on the brochures or seeing the website or some other advertisements. In such bookings sometimes advance also has to be paid. If the customer does not like the room ambience he may be left with little choice since refunds are not given by many hotels.

Many private educational institutions assure jobs to students after completion of course which eventually does not happen. Which service-related consumer problem is depicted in this example ?

1. Excessive billings
2. Being charged but not delivering the service
3. Making false claims
4. Overstating the service attributes

Options :

- 485584146321. 1
- 485584146322. 2
- 485584146323. 3
- 485584146324. 4

Question Number : 196 Question Id : 48558436581 Question Type : MCQ Option Shuffling : No Is Question Mandatory : No Calculator : None Response Time : N.A Think Time : N.A Minimum Instruction Time : 0

Correct Marks : 5 Wrong Marks : 1

Question Key Details :

Key	Value
Comprehension	Comp2

পাঠ্যশটো স্তালদৰে পঢ়া। প্ৰশ্নকেইটাৰ উত্তৰ লিখা।

গ্ৰাহকে কেৱল এটা সামগ্ৰীয়েই ক্ৰয় নকৰে, ইয়াৰ লগত জড়িত সকলো সুবিধাই সামগ্ৰীটোৰ লগত আহি যায়। যেনে বেংক, অন্যান্য বিত্তীয় প্ৰতিষ্ঠান, বিমান ব্যৱস্থা আৰু ভ্ৰমণ ব্যৱস্থাৰ দৰে সেৱাবোৰ, চিকিৎসালয় আৰু আন আন চিকিৎসাবৃত্তিৰ লগত জড়িত ব্যক্তিসকল, জাবৰ সংগ্ৰহ, পথ, উদ্যান আদিৰ পৰিষ্কাৰ-পৰিচ্ছন্নতা আৰু সুৰক্ষাৰ দৰে ৰাজহুৱা সেৱাবোৰ, বিদ্যুৎ, পানী, টেলিফোন, ডাক আৰু টেলিগ্ৰাফ, শিক্ষানুষ্ঠান ইত্যাদি।

গ্ৰাহকসকলে এই সেৱাসমূহৰ ক্ষেত্ৰত বহুতো সমস্যাৰ সন্মুখীন হয়, যেনে অত্যধিক বিলিং, সেৱাৰ বাবদ পইছা লৈ সেৱাপ্ৰদান নকৰা, প্ৰতিশ্ৰুতি দিয়া সেৱাৰ স্তৰ আৰু প্ৰদান কৰা সেৱাৰ মাজত ব্যৱধান, সেৱাৰ বৈশিষ্ট্যসমূহ অতিৰিক্তভাৱে উল্লেখ কৰা আৰু গ্ৰাহকক প্ৰলোভিত কৰা, ভূৱা দাবী কৰা ইত্যাদি।

সেৱা প্ৰদান আৰু বাহ্যিক যোগাযোগ গ্ৰাহক সম্পৰ্কীয় সমস্যা। গ্ৰাহকৰ আশা-প্ৰত্যাশাবোৰ সেৱা প্ৰদানকাৰীয়ে ভেঙলোকৰ পত্ৰিকা, বিজ্ঞাপন, ব্যক্তিগত বিক্ৰী আদিৰ জৰিয়তে দিয়া বাহ্যিক যোগাযোগৰ দ্বাৰা প্ৰভাৱিত হয়। উদাহৰণস্বৰূপে, এখন হোটেলৰিজৰ্টে পত্ৰিকাত এটা সুন্দৰ কোঠা দেখুৱাইছে আৰু অতিথিজনে আহি এটা অতি সাধাৰণ আৰু কমদামী কোঠাৰে দেখা পায়, বহুসময়ত মানুহে ৱচাৰখনৰ আৰত ভিত্তি কৰি বা ৱেবছাইট বা আন কিছুমান বিজ্ঞাপন চাই আগতীয়াকৈ বুকিং কৰে। তেনে বুকিঙত কেতিয়াবা অগ্ৰিম ধনো দিবলগীয়া হয়। যদি গ্ৰাহকজনে কোঠাৰ পৰিবেশটো স্তাল নাপায় তেন্তে বহুতো হোটেলো পইছা শূন্যই নিদিয়াৰ বাবে গ্ৰাহকজনে তেওঁৰ হাতত অতি সামান্য বেলেগ পছন্দ থাকিব।

বহুতো ব্যক্তিগত শিক্ষানুষ্ঠানে পাঠ্যক্ৰম শেষ হোৱাৰ পিছত ছাত্ৰ-ছাত্ৰীক চাকৰিৰ নিশ্চয়তা দিয়ে। এই উদাহৰণটোত কোনটো গ্ৰাহক-সম্পৰ্কীয় সমস্যা জড়িত হৈ আছে।

1. অতিৰিক্ত বিল
2. সেৱাৰ বাবে পইছা লৈছে কিন্তু সেৱা আগবঢ়োৱা
3. ভূৱা দাবী কৰা
4. সেৱাৰ বৈশিষ্ট্যসমূহ অতিৰিক্তভাৱে উল্লেখ কৰা

Options :

485584146321. 1
485584146322. 2
485584146323. 3
485584146324. 4

Question Number : 197 Question Id : 48558436582 Question Type : MCQ Option Shuffling : No Is Question Mandatory : No Calculator : None Response Time : N.A Think Time : N.A Minimum Instruction Time : 0

Correct Marks : 5 Wrong Marks : 1

Question Key Details :

Key	Value
Comprehension	Comp2

Read the passage carefully. Attempt Question

Consumers not only purchase products but a whole gamut of services like those of banks, other financial institutions, airlines and travel agencies; hospitals and other medical practitioners; public utilities like garbage collection, cleanliness and maintenance of roads, parks, etc; electricity water telephone, post and telegraph; educational institutions and so on.

Consumers face a number of problems with regard to these services like excessive billing, being charged but not delivering the service, gap between promised level of service and service that is delivered, overstating the service attributes and enticing the consumer, making false claims and so on.

Gap between service delivery and external communication is a consumer issue. Consumer expectations are affected by promises made by the service provider in his external communication which may be through brochures, advertisements, personal selling etc. E.g. If a resort hotel brochure shows a beautiful room but the guests arrive and find the room to be cheap and very ordinary. Many a times people make advance bookings based on the brochures or seeing the website or some other advertisements. In such bookings sometimes advance also has to be paid. If the customer does not like the room ambience he may be left with little choice since refunds are not given by many hotels.

Which of the following is NOT an example of services offered to consumers ?

1. Consumer durables
2. Banking services
3. Airlines
4. Educational institutions

Options :

485584146325. 1
485584146326. 2
485584146327. 3
485584146328. 4

Question Number : 197 Question Id : 48558436582 Question Type : MCQ Option Shuffling : No Is Question Mandatory : No Calculator : None Response Time : N.A Think Time : N.A Minimum Instruction Time : 0

Correct Marks : 5 Wrong Marks : 1

Question Key Details :

Key	Value
Comprehension	Comp2

পাঠ্যংশটো ভালদৰে পঢ়া। প্ৰশ্নকেইটাৰ উত্তৰ লিখা।

গ্ৰাহকে কেৱল এটা সামগ্ৰীয়েই ক্ৰয় নকৰে, ইয়াৰ লগত জড়িত সকলো সুবিধাই সামগ্ৰীটোৰ লগত আহি যায়। যেনে বেংক, অন্যান্য বিত্তীয় প্রতিষ্ঠান, বিমান ব্যবস্থা আৰু ভ্ৰমণ ব্যৱস্থাৰ দৰে সেৱাবোৰ, চিকিৎসালয় আৰু আন আন চিকিৎসাবৃত্তিৰ লগত জড়িত ব্যক্তিসকল, জাবৰ সংগ্ৰহ, পথ, উদ্যান আদিৰ পৰিষ্কাৰ-পৰিচ্ছন্নতা আৰু সুৰক্ষাৰ দৰে ৰাজহুৱা সেৱাবোৰ, বিদ্যুৎ, পানী, টেলিফোন, ডাক আৰু টেলিগ্ৰাফ, শিক্ষানুষ্ঠান ইত্যাদি।

গ্ৰাহকসকলে এই সেৱাসমূহৰ ক্ষেত্ৰত বহুতো সমস্যাৰ সন্মুখীন হয়, যেনে অত্যধিক বিলিং, সেৱাৰ বাবদ পইছা লৈ সেৱাপ্ৰদান নকৰা, প্ৰতিশ্ৰুতি দিয়া সেৱাৰ স্তৰ আৰু প্ৰদান কৰা সেৱাৰ মাজত ব্যৱধান, সেৱাৰ বৈশিষ্ট্যসমূহ অতিবিক্ৰমভাৱে উল্লেখ কৰা আৰু গ্ৰাহকক প্ৰলোভিত কৰা, ভূৱা দাবী কৰা ইত্যাদি।

সেৱা প্ৰদান আৰু বাহ্যিক যোগাযোগ গ্ৰাহক সম্পৰ্কীয় সমস্যা। গ্ৰাহকৰ আশা-প্ৰত্যাশাবোৰ সেৱা প্ৰদানকাৰীয়ে ভেঙলোকৰ পত্ৰিকা, বিজ্ঞাপন, ব্যক্তিগত বিক্ৰী আদিৰ জৰিয়তে দিয়া বাহ্যিক যোগাযোগৰ দ্বাৰা প্ৰভাৱিত হয়। উদাহৰণস্বৰূপে, এখন হোটেলৰিজৰ্টে পত্ৰিকাত এটা সুন্দৰ কোঠা দেখুৱাইছে আৰু অতিথিজনে আহি এটা অতি সাধাৰণ আৰু কমদামী কোঠাৰে দেখা পায়, বহুসময়ত মানুহে ৱচাৰখনৰ আৰত ভিত্তি কৰি বা ৱেবছাইট বা আন কিছুমান বিজ্ঞাপন চাই আগতীয়াকৈ বুকিং কৰে। তেনে বুকিঙত কেতিয়াবা অগ্ৰিম ধনো দিবলগীয়া হয়। যদি গ্ৰাহকজনে কোঠাৰ পৰিবেশটো ভাল নাপায় তেন্তে বহুতো হোটেলো পইছা খুৱাই নিদিয়াৰ বাবে গ্ৰাহকজনে তেওঁৰ হাতত অতি সামান্য বেলেগ পছন্দ থাকিব।

তলৰ কোনকেইটা উপভোক্তাৰ আগবঢ়োৱা সেৱা

1. বেংকিং সেৱা
2. উপভোক্তাৰ সামগ্ৰী
3. এয়াৰলাইনছ
4. শিক্ষানুষ্ঠান

Options :

485584146325. 1
485584146326. 2
485584146327. 3
485584146328. 4

Question Number : 198 Question Id : 48558436583 Question Type : MCQ Option Shuffling : No Is Question Mandatory : No Calculator : None Response Time : N.A Think Time : N.A Minimum Instruction Time : 0

Correct Marks : 5 Wrong Marks : 1

Question Key Details :

Key	Value
-----	-------

Read the passage carefully. Attempt Question

Consumers not only purchase products but a whole gamut of services like those of banks, other financial institutions, airlines and travel agencies; hospitals and other medical practitioners; public utilities like garbage collection, cleanliness and maintenance of roads, parks, etc; electricity water telephone, post and telegraph; educational institutions and so on.

Consumers face a number of problems with regard to these services like excessive billing, being charged but not delivering the service, gap between promised level of service and service that is delivered, overstating the service attributes and enticing the consumer, making false claims and so on.

Gap between service delivery and external communication is a consumer issue. Consumer expectations are affected by promises made by the service provider in his external communication which may be through brochures, advertisements, personal selling etc. E.g. If a resort hotel brochure shows a beautiful room but the guests arrive and find the room to be cheap and very ordinary. Many a times people make advance bookings based on the brochures or seeing the website or some other advertisements. In such bookings sometimes advance also has to be paid. If the customer does not like the room ambience he may be left with little choice since refunds are not given by many hotels.

Many a times, we are required to pay a basic telephone rental charge irrespective of it being out of order. Which service related to consumer problem is depicted in this example?

1. Excessive billing
2. Being charged but not delivering the service
3. Making false claims
4. Overstating the service attributes

Options :

485584146329. 1
 485584146330. 2
 485584146331. 3
 485584146332. 4

Question Number : 198 Question Id : 48558436583 Question Type : MCQ Option Shuffling : No Is Question Mandatory : No Calculator : None Response Time : N.A Think Time : N.A Minimum Instruction Time : 0

Correct Marks : 5 Wrong Marks : 1

Question Key Details :

Key	Value
Comprehension	Comp2

পাঠ্যশটো ভালদৰে পঢ়া। প্ৰশ্নকেইটাৰ উত্তৰ লিখা।

গ্ৰাহকে কেৱল এটা সামগ্ৰীয়েই ক্ৰয় নকৰে, ইয়াৰ লগত জড়িত সকলো সুবিধাই সামগ্ৰীটোৰ লগত আহি যায়। যেনে বেংক, অন্যান্য বিত্তীয় প্রতিষ্ঠান, বিমান ব্যবস্থা আৰু ভ্ৰমণ ব্যৱস্থাৰ দৰে সেৱাবোৰ, চিকিৎসালয় আৰু আন আন চিকিৎসাবৃত্তিৰ লগত জড়িত ব্যক্তিসকল, জাবৰ সংগ্ৰহ, পথ, উদ্যান আদিৰ পৰিষ্কাৰ-পৰিচ্ছন্নতা আৰু সুৰক্ষাৰ দৰে ৰাজহুৱা সেৱাবোৰ, বিদ্যুৎ, পানী, টেলিফোন, ডাক আৰু টেলিগ্ৰাফ, শিক্ষানুষ্ঠান ইত্যাদি।

গ্ৰাহকসকলে এই সেৱাসমূহৰ ক্ষেত্ৰত বহুতো সমস্যাৰ সন্মুখীন হয়, যেনে অত্যধিক বিলিং, সেৱাৰ বাবদ পইছা লৈ সেৱাপ্ৰদান নকৰা, প্ৰতিশ্ৰুতি দিয়া সেৱাৰ স্তৰ আৰু প্ৰদান কৰা সেৱাৰ মাজত ব্যৱধান, সেৱাৰ বৈশিষ্ট্যসমূহ অতিৰিক্তভাবে উল্লেখ কৰা আৰু গ্ৰাহকক প্ৰলোভিত কৰা, ভূৱা দাবী কৰা ইত্যাদি।

সেৱা প্ৰদান আৰু বাহ্যিক যোগাযোগ গ্ৰাহক সম্পৰ্কীয় সমস্যা। গ্ৰাহকৰ আশা-প্ৰত্যাশাবোৰ সেৱা প্ৰদানকাৰীয়ে ভেঙলোকৰ পত্ৰিকা, বিজ্ঞাপন, ব্যক্তিগত বিক্ৰী আদিৰ জৰিয়তে দিয়া বাহ্যিক যোগাযোগৰ দ্বাৰা প্ৰভাৱিত হয়। উদাহৰণস্বৰূপে, এখন হোটেলৰিজৰ্টে পত্ৰিকাত এটা সুন্দৰ কোঠা দেখুৱাইছে আৰু অতিথিজনে আহি এটা অতি সাধাৰণ আৰু কমদামী কোঠাৰে দেখা পায়, বহুসময়ত মানুহে ৱচাৰখনৰ আৰত ভিত্তি কৰি বা ৱেবছাইট বা আন কিছুমান বিজ্ঞাপন চাই আগতীয়াকৈ বুকিং কৰে। তেনে বুকিঙত কেতিয়াবা অগ্ৰিম ধনো দিবলগীয়া হয়। যদি গ্ৰাহকজনে কোঠাৰ পৰিবেশটো ভাল নাপায় তেন্তে বহুতো হোটেলে পইছা ঘূৰাই নিদিয়াৰ বাবে গ্ৰাহকজনে তেওঁৰ হাতত অতি সামান্য বেলেগ পছন্দ থাকিব।

বহুসময়ত আমি টেলিফোন বেয়া হৈ থাকিলেও মৌলিক ভাড়াটো দি থাকিবলগীয়া হয়। এই উদাহৰণটোত গ্ৰাহকৰ কোনটো সমস্যাৰ কথা দাঙি ধৰা হৈছে?

1. অতিৰিক্ত বিল আদায়
2. মাচুল দি থকা হৈছে কিন্তু সেৱা আগবঢ়োৱা নাই
3. ভূৱা দাবী কৰা
4. সেৱাসমূহ অতিৰিক্তভাবে উল্লেখ কৰা

Options :

485584146329. 1
485584146330. 2
485584146331. 3
485584146332. 4

Question Number : 199 Question Id : 48558436584 Question Type : MCQ Option Shuffling : No Is Question Mandatory : No Calculator : None Response Time : N.A Think Time : N.A Minimum Instruction Time : 0

Correct Marks : 5 Wrong Marks : 1

Question Key Details :

Key	Value
Comprehension	Comp2

Read the passage carefully. Attempt Question

Consumers not only purchase products but a whole gamut of services like those of banks, other financial institutions, airlines and travel agencies; hospitals and other medical practitioners; public utilities like garbage collection, cleanliness and maintenance of roads, parks, etc; electricity water telephone, post and telegraph; educational institutions and so on.

Consumers face a number of problems with regard to these services like excessive billing, being charged but not delivering the service, gap between promised level of service and service that is delivered, overstating the service attributes and enticing the consumer, making false claims and so on.

Gap between service delivery and external communication is a consumer issue. Consumer expectations are affected by promises made by the service provider in his external communication which may be through brochures, advertisements, personal selling etc. E.g. If a resort hotel brochure shows a beautiful room but the guests arrive and find the room to be cheap and very ordinary. Many a times people make advance bookings based on the brochures or seeing the website or some other advertisements. In such bookings sometimes advance also has to be paid. If the customer does not like the room ambience he may be left with little choice since refunds are not given by many hotels.

Which of the following is NOT an example of aid used by service providers for external communication ?

1. Brochures
2. Board meeting
3. Advertisements
4. Personal selling

Options :

- 485584146333. 1
- 485584146334. 2
- 485584146335. 3
- 485584146336. 4

Question Number : 199 Question Id : 48558436584 Question Type : MCQ Option Shuffling : No Is Question Mandatory : No Calculator : None Response Time : N.A Think Time : N.A Minimum Instruction Time : 0

Correct Marks : 5 Wrong Marks : 1

Question Key Details :

Key	Value
Comprehension	Comp2

পাঠ্যশতটো ভালদৰে পঢ়া। প্ৰশ্নকেইটাৰ উত্তৰ লিখা।

গ্ৰাহকে কেৱল এটা সামগ্ৰীয়েই ক্ৰয় নকৰে, ইয়াৰ লগত জড়িত সকলো সুবিধাই সামগ্ৰীটোৰ লগত আহি যায়। যেনে বেংক, অন্যান্য বিত্তীয় প্রতিষ্ঠান, বিমান ব্যবস্থা আৰু ভ্ৰমণ ব্যৱস্থাৰ দৰে সেৱাবোৰ, চিকিৎসালয় আৰু আন আন চিকিৎসাবৃত্তিৰ লগত জড়িত ব্যক্তিসকল, জাবৰ সংগ্ৰহ, পথ, উদ্যান আদিৰ পৰিষ্কাৰ-পৰিচ্ছন্নতা আৰু সুৰক্ষাৰ দৰে ৰাজহুৱা সেৱাবোৰ, বিদ্যুৎ, পানী, টেলিফোন, ডাক আৰু টেলিগ্ৰাফ, শিক্ষানুষ্ঠান ইত্যাদি।

গ্ৰাহকসকলে এই সেৱাসমূহৰ ক্ষেত্ৰত বহুতো সমস্যাৰ সন্মুখীন হয়, যেনে অত্যধিক বিলিং, সেৱাৰ বাবদ পইছা লৈ সেৱাপ্ৰদান নকৰা, প্ৰতিশ্ৰুতি দিয়া সেৱাৰ স্তৰ আৰু প্ৰদান কৰা সেৱাৰ মাজত ব্যৱধান, সেৱাৰ বৈশিষ্ট্যসমূহ অতিবিক্ৰমভাৱে উল্লেখ কৰা আৰু গ্ৰাহকক প্ৰলোভিত কৰা, ভূৱা দাবী কৰা ইত্যাদি।

সেৱা প্ৰদান আৰু বাহ্যিক যোগাযোগ গ্ৰাহক সম্পৰ্কীয় সমস্যা। গ্ৰাহকৰ আশা-প্ৰত্যাশাবোৰ সেৱা প্ৰদানকাৰীয়ে ভেঙলোকৰ পত্ৰিকা, বিজ্ঞাপন, ব্যক্তিগত বিক্ৰী আদিৰ জৰিয়তে দিয়া বাহ্যিক যোগাযোগৰ দ্বাৰা প্ৰভাৱিত হয়। উদাহৰণস্বৰূপে, এখন হোটেলৰিজৰ্টে পত্ৰিকাত এটা সুন্দৰ কোঠা দেখুৱাইছে আৰু অতিথিজনে আহি এটা অতি সাধাৰণ আৰু কমদামী কোঠাৰে দেখা পায়, বহুসময়ত মানুহে ৱচাৰখনৰ আৰত ভিত্তি কৰি বা ৱেবছাইট বা আন কিছুমান বিজ্ঞাপন চাই আগতীয়াকৈ বুকিং কৰে। তেনে বুকিঙত কেতিয়াবা অগ্ৰিম ধনো দিবলগীয়া হয়। যদি গ্ৰাহকজনে কোঠাৰ পৰিবেশটো ভাল নাপায় তেন্তে বহুতো হোটেল পইছা ঘূৰাই নিদিয়াৰ বাবে গ্ৰাহকজনে তেওঁৰ হাতত অতি সামান্য বেলেগ পছন্দ থাকিব।

তলৰ কোনটো বাহ্যিক যোগাযোগৰ বাবে সেৱা প্ৰদানকাৰীয়ে ব্যৱহাৰ কৰা উপায়ৰ উদাহৰণ নহয় ?

1. পত্ৰিকা (Brochures)
2. বৰ্ড মিটিং
3. বিজ্ঞাপন
4. ব্যক্তিগত বিক্ৰী

Options :

485584146333. 1
485584146334. 2
485584146335. 3
485584146336. 4

Question Number : 200 Question Id : 48558436585 Question Type : MCQ Option Shuffling : No Is Question Mandatory : No Calculator : None Response Time : N.A Think Time : N.A Minimum Instruction Time : 0

Correct Marks : 5 Wrong Marks : 1

Question Key Details :

Key	Value
-----	-------

Read the passage carefully. Attempt Question

Consumers not only purchase products but a whole gamut of services like those of banks, other financial institutions, airlines and travel agencies; hospitals and other medical practitioners; public utilities like garbage collection, cleanliness and maintenance of roads, parks, etc; electricity water telephone, post and telegraph; educational institutions and so on.

Consumers face a number of problems with regard to these services like excessive billing, being charged but not delivering the service, gap between promised level of service and service that is delivered, overstating the service attributes and enticing the consumer, making false claims and so on.

Gap between service delivery and external communication is a consumer issue. Consumer expectations are affected by promises made by the service provider in his external communication which may be through brochures, advertisements, personal selling etc. E.g. If a resort hotel brochure shows a beautiful room but the guests arrive and find the room to be cheap and very ordinary. Many a times people make advance bookings based on the brochures or seeing the website or some other advertisements. In such bookings sometimes advance also has to be paid. If the customer does not like the room ambience he may be left with little choice since refunds are not given by many hotels.

A family had gone on vacation for a month but received electricity bill for the same month running in several thousands, Which service related consumer problems is depicted in this case?

1. Excessive billing
2. Being charged but not delivering the service
3. Making false claims
4. Overstating the service attributes

Options :

485584146337. 1
 485584146338. 2
 485584146339. 3
 485584146340. 4

Question Number : 200 Question Id : 48558436585 Question Type : MCQ Option Shuffling : No Is Question Mandatory : No Calculator : None Response Time : N.A Think Time : N.A Minimum Instruction Time : 0

Correct Marks : 5 Wrong Marks : 1

Question Key Details :

Key	Value
Comprehension	Comp2

পাঠ্যশটো স্তালদৰে পঢ়া। প্ৰশ্নকেইটাৰ উত্তৰ লিখা।

গ্ৰাহকে কেৱল এটা সামগ্ৰীয়েই ক্ৰয় নকৰে, ইয়াৰ লগত জড়িত সকলো সুবিধাই সামগ্ৰীটোৰ লগত আহি যায়। যেনে বেংক, অন্যান্য বিত্তীয় প্রতিষ্ঠান, বিমান ব্যবস্থা আৰু ভ্ৰমণ ব্যৱস্থাৰ দৰে সেৱাবোৰ, চিকিৎসালয় আৰু আন আন চিকিৎসাবৃত্তিৰ লগত জড়িত ব্যক্তিসকল, জাবৰ সংগ্ৰহ, পথ, উদ্যান আদিৰ পৰিষ্কাৰ-পৰিচ্ছন্নতা আৰু সুৰক্ষাৰ দৰে ৰাজহুৱা সেৱাবোৰ, বিদ্যুৎ, পানী, টেলিফোন, ডাক আৰু টেলিগ্ৰাফ, শিক্ষানুষ্ঠান ইত্যাদি।

গ্ৰাহকসকলে এই সেৱাসমূহৰ ক্ষেত্ৰত বহুতো সমস্যাৰ সন্মুখীন হয়, যেনে অত্যধিক বিলিং, সেৱাৰ বাবদ পইছা লৈ সেৱাপ্ৰদান নকৰা, প্ৰতিশ্ৰুতি দিয়া সেৱাৰ স্তৰ আৰু প্ৰদান কৰা সেৱাৰ মাজত ব্যৱধান, সেৱাৰ বৈশিষ্ট্যসমূহ অতিৰিক্তভাৱে উল্লেখ কৰা আৰু গ্ৰাহকক প্ৰলোভিত কৰা, ভূৱা দাবী কৰা ইত্যাদি।

সেৱা প্ৰদান আৰু বাহ্যিক যোগাযোগ গ্ৰাহক সম্পৰ্কীয় সমস্যা। গ্ৰাহকৰ আশা-প্ৰত্যাশাবোৰ সেৱা প্ৰদানকাৰীয়ে তেওঁলোকৰ পত্ৰিকা, বিজ্ঞাপন, ব্যক্তিগত বিক্ৰী আদিৰ জৰিয়তে দিয়া বাহ্যিক যোগাযোগৰ দ্বাৰা প্ৰভাৱিত হয়। উদাহৰণস্বৰূপে, এখন হোটেলৰিজৰ্টে পত্ৰিকাত এটা সুন্দৰ কোঠা দেখুৱাইছে আৰু অতিথিজনে আহি এটা অতি সাধাৰণ আৰু কমদামী কোঠাৰে দেখা পায়, বহুসময়ত মানুহে ৱচাৰখনৰ আৰত ভিত্তি কৰি বা ৱেবছাইট বা আন কিছুমান বিজ্ঞাপন চাই আগতীয়াকৈ বুকিং কৰে। তেনে বুকিঙত কেতিয়াবা অগ্ৰিম ধনো দিবলগীয়া হয়। যদি গ্ৰাহকজনে কোঠাৰ পৰিবেশটো স্তাল নাপায় তেন্তে বহুতো হোটেলে পইছা শূন্যই নিদিয়াৰ বাবে গ্ৰাহকজনে তেওঁৰ হাতত অতি সামান্য বেলেগ পছন্দ থাকিব।

এটা পৰিয়াল বন্ধৰ দিনত এমাহৰ বাবে ফুৰিবলৈ লৈছিল কিন্তু এই মাহৰ তেওঁলোকৰ কেইবাহাজাৰ টকাৰ বিদ্যুৎ বিল আছিল। এই উদাহৰণটোত তলৰ কোনটো সেৱা জড়িত উপভোক্তাৰ সমস্যা জড়িত?

1. অতিৰিক্ত বিল প্ৰদান
2. মাছুল লৈ ধকা হৈছে কিন্তু সেৱা প্ৰদান কৰা নাই
3. ভূৱা দাবী কৰা হৈছে
4. সেৱাৰ বৈশিষ্ট্যসমূহ অতিৰিক্তভাৱে হৈছে

Options :

485584146337. 1
485584146338. 2
485584146339. 3
485584146340. 4

Teaching Aptitude

Group Number :

6

Group Id :

485584826

Group Maximum Duration :	45
Group Minimum Duration :	45
Show Attended Group? :	No
Edit Attended Group? :	No
Break time :	0
Group Marks :	200
Is this Group for Examiner? :	No
Examiner permission :	Cant View
Show Progress Bar? :	No

Teaching Aptitude

Section Id :	485584950
Section Number :	1
Section type :	Online
Mandatory or Optional :	Mandatory
Number of Questions :	50
Number of Questions to be attempted :	40
Section Marks :	200
Enable Mark as Answered Mark for Review and Clear Response :	Yes
Maximum Instruction Time :	0
Sub-Section Number :	1
Sub-Section Id :	4855842702
Question Shuffling Allowed :	Yes
Is Section Default? :	null

Question Number : 201 Question Id : 48558436586 Question Type : MCQ Option Shuffling : No Is Question Mandatory : No Calculator : None Response Time : N.A Think Time : N.A Minimum Instruction Time : 0

Correct Marks : 5 Wrong Marks : 1

Question Key Details :

Key	Value
Comprehension	MCQ

Match List I with List II

LIST I Dance		LIST II Artists	
A.	Bharatnatyam	I.	Savita Mehta
B.	Odissi	II.	Sitara Devi
C.	Kathak	III.	Yamini Krishnamurthy
D.	Manipuri	IV.	Sanjukta Panigrahi

Choose the correct answer from the options given below:

1. A-III, B-IV, C-II, D-I
2. A-III, B-II, C-IV, D-I
3. A-II, B-IV, C-III, D-I
4. A-II, B-I, C-IV, D-III

Options :

485584146341. 1
485584146342. 2
485584146343. 3
485584146344. 4

Question Number : 201 Question Id : 48558436586 Question Type : MCQ Option Shuffling : No Is Question Mandatory : No Calculator : None Response Time : N.A Think Time : N.A Minimum Instruction Time : 0

Correct Marks : 5 Wrong Marks : 1

Question Key Details :

Key	Value
Comprehension	MCQ

তালিকা I ৰ সৈতে তালিকা II মিলোৱা:

তালিকা I নৃত্য		তালিকা II শিল্পী	
A	ভাৰতনাট্যম	I	সবিতা মেহতা
B	গুড্‌চি	II	চতুৰা দেৱী
C	কথক	III	ঘামিনী কৃষ্ণমূৰ্তি
D	মণিপুৰী	IV	সংযুক্তা পাৰ্ণগ্ৰাহী

তলৰ বিকল্পসমূহৰপৰা শুদ্ধ বিকল্পটো বাছনি কৰি উলিওৱা:

1. A-III, B-IV, C-II, D-I
2. A-III, B-II, C-IV, D-I
3. A-II, B-IV, C-III, D-I
4. A-II, B-I, C-IV, D-III

Options :

485584146341. 1
485584146342. 2
485584146343. 3
485584146344. 4

Question Number : 202 Question Id : 48558436587 Question Type : MCQ Option Shuffling : No Is Question Mandatory : No Calculator : None Response Time : N.A Think Time : N.A Minimum Instruction Time : 0

Correct Marks : 5 Wrong Marks : 1

Question Key Details :

Key	Value
Comprehension	MCQ

DD Gyan Darshan is an educational media initiative of Ministry of Education in collaboration with-

- A. Ministry of Information and Broadcasting
- B. Prasar Bharti
- C. ISRO
- D. IGNOU
- E. Ministry of Information and Communication Technology

Choose the correct answer from the options given below:

- 1. A, B and C only
- 2. A, C and D only
- 3. A, B, C and D only
- 4. B, C and E only

Options :

- 485584146345. 1
- 485584146346. 2
- 485584146347. 3
- 485584146348. 4

Question Number : 202 Question Id : 48558436587 Question Type : MCQ Option Shuffling : No Is Question Mandatory : No Calculator : None Response Time : N.A Think Time : N.A Minimum Instruction Time : 0

Correct Marks : 5 Wrong Marks : 1

Question Key Details :

Key	Value
Comprehension	MCQ

ডি.ডি (DD) জ্ঞান দর্শন শিক্ষা মন্ত্রণালয়ে আৰম্ভ কৰা এটা শৈক্ষিক মাধ্যম যাক সহযোগিতা কৰিছে:

- A. তথ্য আৰু সম্প্ৰচাৰ মন্ত্রণালয়ে
- B. প্ৰসাৰ ভাৰতীয়ে
- C. ISRO-ই
- D. IGNOU-ই
- E. তথ্য আৰু যোগাযোগ প্ৰযুক্তি মন্ত্রণালয়ে

তলত দিয়া বিকল্পসমূহৰপৰা শুদ্ধ উত্তৰটো বাছনি কৰি উলিওৱা:

- 1. কেৱল A, B আৰু C
- 2. কেৱল A, C আৰু D
- 3. কেৱল A, B, C আৰু D
- 4. কেৱল B, C আৰু E

Options :

- 485584146345. 1
- 485584146346. 2

485584146347. 3

485584146348. 4

Question Number : 203 Question Id : 48558436588 Question Type : MCQ Option Shuffling : No Is Question Mandatory : No Calculator : None Response Time : N.A Think Time : N.A Minimum Instruction Time : 0

Correct Marks : 5 Wrong Marks : 1

Question Key Details :

Key	Value
Comprehension	MCQ

Match List I with List II

LIST I		LIST II	
A.	Thappad	I.	Women's bodies and commercial gains
B.	Mimi	II.	Quality education for all
C.	Black	III.	Domestic violence and dignity
D.	Hichki	IV.	Right to a dignified life and knowledge

Choose the correct answer from the options given below:

1. A-III, B-I, C-IV, D-II

2. A-I, B-III, C-IV, D-II

3. A-III, B-I, C-II, D-IV

4. A-III, B-II, C-IV, D-I

Options :

485584146349. 1

485584146350. 2

485584146351. 3

485584146352. 4

Question Number : 203 Question Id : 48558436588 Question Type : MCQ Option Shuffling : No Is Question Mandatory : No Calculator : None Response Time : N.A Think Time : N.A Minimum Instruction Time : 0

Correct Marks : 5 Wrong Marks : 1

Question Key Details :

Key	Value
Comprehension	MCQ

তালিকা I-ৰ সৈতে তালিকা II মিলোৱা:

তালিকা I (চলচ্চিত্ৰ)	তালিকা II (বিষয়-বস্তু)
A. ধল্লুড়	I. নাৰীৰ শৰীৰ আৰু ব্যৱসায়িক লাভ
B. মিমি	II. সকলোৰে বাবে গুণগত শিক্ষা
C. ব্লেক	III. ঘৰুৱা হিংসা আৰু মৰ্যাদা
D. হিচুকি	IV. মৰ্যাদাসম্পন্ন জীৱন আৰু জ্ঞানৰ অধিকাৰ

তলত দিয়া বিকল্পসমূহৰপৰা শুদ্ধ উত্তৰটো বাছি উলিওৱা:

1. A-III, B-I, C-IV, D-II
2. A-I, B-III, C-IV, D-II
3. A-III, B-I, C-II, D-IV
4. A-III, B-II, C-IV, D-I

Options :

485584146349. 1
485584146350. 2
485584146351. 3
485584146352. 4

Question Number : 204 Question Id : 48558436589 Question Type : MCQ Option Shuffling : No Is Question Mandatory : No Calculator : None Response Time : N.A Think Time : N.A Minimum Instruction Time : 0

Correct Marks : 5 Wrong Marks : 1

Question Key Details :

Key	Value
Comprehension	MCQ

In the story 'Idgah' the protagonist Hamid buys a _____ for _____ from the fair.

1. pair of tongs, his grandmother
2. pair of tongs, his mother
3. clay doll, himself
4. clay doll, his grandmother

Options :

485584146353. 1
485584146354. 2
485584146355. 3
485584146356. 4

Question Number : 204 Question Id : 48558436589 Question Type : MCQ Option Shuffling : No Is Question Mandatory : No Calculator : None Response Time : N.A Think Time : N.A Minimum Instruction Time : 0

Correct Marks : 5 Wrong Marks : 1

Question Key Details :

Key	Value
Comprehension	MCQ

'ঈদগাহ' কাহিনীটোৰ মূল চৰিত্ৰ হামিদে মেলাৰপৰা _____ ৰ বাবে _____ কিনি আনিছিল।

1. আইতাক, এষোৰ চেপেনা
2. মাক, এষোৰ চেপেনা
3. নিজৰ, মাটিৰ পুতলা
4. আইতাক, মাটিৰ পুতলা

Options :

485584146353. 1
485584146354. 2
485584146355. 3
485584146356. 4

Question Number : 205 Question Id : 48558436590 Question Type : MCQ Option Shuffling : No Is Question Mandatory : No Calculator : None Response Time : N.A Think Time : N.A Minimum Instruction Time : 0

Correct Marks : 5 Wrong Marks : 1

Question Key Details :

Key	Value
Comprehension	MCQ

Who is the first female Indian scientist to receive a PhD degree in a scientific discipline?

1. Kamala Sohanic
2. Janaki Ammal
3. Anandibai Gopalrao Joshi
4. Asuna Chaterjee

Options :

485584146357. 1
485584146358. 2
485584146359. 3
485584146360. 4

Question Number : 205 Question Id : 48558436590 Question Type : MCQ Option Shuffling : No Is Question Mandatory : No Calculator : None Response Time : N.A Think Time : N.A Minimum Instruction Time : 0

Correct Marks : 5 Wrong Marks : 1

Question Key Details :

Key	Value
Comprehension	MCQ

বিজ্ঞান শাখাত ডক্টৰেট (PhD) উপাধি লাভ কৰা প্ৰথম ভাৰতীয় মহিলা বিজ্ঞানীগৰাকী কোন আছিল?

1. কমলা সোহনী
2. জানকী অশ্বল
3. আনন্দীবাই গোপালৰাও যোশী
4. অসীমা চেটাৰ্জী

Options :

485584146357. 1
485584146358. 2
485584146359. 3
485584146360. 4

Question Number : 206 Question Id : 48558436591 Question Type : MCQ Option Shuffling : No Is Question Mandatory : No Calculator : None Response Time : N.A Think Time : N.A Minimum Instruction Time : 0

Correct Marks : 5 Wrong Marks : 1

Question Key Details :

Key	Value
Comprehension	MCQ

In the film, 'Chak De India', which of the following themes was not addressed?

1. National integration
2. Child labour
3. Women Empowerment
4. Religious Harmony

Options :

485584146361. 1
485584146362. 2
485584146363. 3
485584146364. 4

Question Number : 206 Question Id : 48558436591 Question Type : MCQ Option Shuffling : No Is Question Mandatory : No Calculator : None Response Time : N.A Think Time : N.A Minimum Instruction Time : 0

Correct Marks : 5 Wrong Marks : 1

Question Key Details :

Key	Value
Comprehension	MCQ

'চক্ দে ইণ্ডিয়া' নামৰ কথাছবিখনত তলত দিয়া কোনটো বিষয়ক স্পৰ্শ কৰা হোৱা নাছিল?

1. ৰাষ্ট্ৰীয় ঐক্য
2. শিশু অমিক
3. নাৰী সবলীকৰণ
4. ধৰ্মীয় সম্প্ৰীতি

Options :

485584146361. 1
485584146362. 2
485584146363. 3
485584146364. 4

Question Number : 207 Question Id : 48558436592 Question Type : MCQ Option Shuffling : No Is Question Mandatory : No Calculator : None Response Time : N.A Think Time : N.A Minimum Instruction Time : 0

Correct Marks : 5 Wrong Marks : 1

Question Key Details :

Key	Value
Comprehension	MCQ

The stories by Premchand primarily deal with:

- A. Challenges faced by children
- B. issues related to women
- C. struggles of the professional class
- D. struggles of the rural poor
- E. the character of villages in medieval India

Choose the most appropriate answer from the options given below:

1. B, C and E only
2. D, A and E only
3. C, D and A only
4. A, B and D only

Options :

485584146365. 1
485584146366. 2
485584146367. 3
485584146368. 4

Question Number : 207 Question Id : 48558436592 Question Type : MCQ Option Shuffling : No Is Question Mandatory : No Calculator : None Response Time : N.A Think Time : N.A Minimum Instruction Time : 0

Correct Marks : 5 Wrong Marks : 1

Question Key Details :

Key	Value
-----	-------

প্ৰেমচন্দৰ কাহিনীসমূহে মূলতঃ প্ৰতিফলিত কৰে:

- A. শিশুসকলে সন্মুখীন হোৱা প্ৰত্যাহ্বান
- B. মহিলাৰ লগত জড়িত সমস্যা
- C. বৃত্তিধাৰী শ্ৰেণীৰ সংঘৰ্ষ
- D. গ্ৰামাঞ্চলৰ দুখীয়া লোকসকলৰ সংঘৰ্ষ
- E. মধ্যযুগীয় ভাৰতবৰ্ষৰ গাঁওৰ বৈশিষ্ট্য

তলত দিয়া বিকল্পসমূহৰপৰা যথোপযুক্ত উত্তৰটো বাছি উলিওৱা:

- 1. কেৱল B, C আৰু E
- 2. কেৱল D, A আৰু E
- 3. কেৱল C, D আৰু A
- 4. কেৱল A, B আৰু D

Options :

- 485584146365. 1
- 485584146366. 2
- 485584146367. 3
- 485584146368. 4

Question Number : 208 Question Id : 48558436593 Question Type : MCQ Option Shuffling : No Is Question Mandatory : No Calculator : None Response Time : N.A Think Time : N.A Minimum Instruction Time : 0

Correct Marks : 5 Wrong Marks : 1

Question Key Details :

Key	Value
Comprehension	MCQ

The central theme of the Hindi film, 'Dangal' is:

- 1. Urban-rural social divide in the state of Haryana
- 2. Women in a male- dominated sport
- 3. Relationship between siblings
- 4. Mother - daughter relationship

Options :

- 485584146369. 1
- 485584146370. 2
- 485584146371. 3
- 485584146372. 4

Question Number : 208 Question Id : 48558436593 Question Type : MCQ Option Shuffling : No Is Question Mandatory : No Calculator : None Response Time : N.A Think Time : N.A Minimum Instruction Time : 0

Correct Marks : 5 Wrong Marks : 1

Question Key Details :

Key	Value
Comprehension	MCQ

हिन्दी कथाछवि 'दंगल'ब मूल विषयवस्तु ह'ल:

1. हाबियाणा बाज्याब चहब आरु गाँवब सामाजिक विभाजन
2. पुरुष-प्रधान खेलत नारी
3. सहोदरब माज्ब सम्पर्क
4. माक-ज्जीयेकब सम्पर्क

Options :

485584146369. 1
485584146370. 2
485584146371. 3
485584146372. 4

Question Number : 209 Question Id : 48558436594 Question Type : MCQ Option Shuffling : No Is Question Mandatory : No Calculator : None Response Time : N.A Think Time : N.A Minimum Instruction Time : 0

Correct Marks : 5 Wrong Marks : 1

Question Key Details :

Key	Value
Comprehension	MCQ

Tagore's alternate school 'Shantiniketan' did NOT promote:

1. Open classrooms
2. Simplicity of the learning process
3. Teaching in the mother tongue
4. Discipline in children

Options :

485584146373. 1
485584146374. 2
485584146375. 3
485584146376. 4

Question Number : 209 Question Id : 48558436594 Question Type : MCQ Option Shuffling : No Is Question Mandatory : No Calculator : None Response Time : N.A Think Time : N.A Minimum Instruction Time : 0

Correct Marks : 5 Wrong Marks : 1

Question Key Details :

Key	Value
Comprehension	MCQ

ৰবীন্দ্ৰনাথ ঠাকুৰৰ বৈকল্পিক বিদ্যালয় 'শান্তিনিকেতনে' গুৰুত্ব আৰোপ কৰা নাছিল:

1. মুক্ত শ্ৰেণীকোঠাত
2. শিক্ষণ পদ্ধতিৰ সৰলতাত
3. মাতৃভাষাত শিক্ষণত
4. শিশুসকলৰ মাজত অনুশাসন অনাত

Options :

485584146373. 1
485584146374. 2
485584146375. 3
485584146376. 4

Question Number : 210 Question Id : 48558436595 Question Type : MCQ Option Shuffling : No Is Question Mandatory : No Calculator : None Response Time : N.A Think Time : N.A Minimum Instruction Time : 0

Correct Marks : 5 Wrong Marks : 1

Question Key Details :

Key	Value
Comprehension	MCQ

Which of the following is not a Children's novel?

1. Ahimsa
2. Charlie and the Chocolate Factory
3. A Thousand Splendid Suns
4. Wonder

Options :

485584146377. 1
485584146378. 2
485584146379. 3
485584146380. 4

Question Number : 210 Question Id : 48558436595 Question Type : MCQ Option Shuffling : No Is Question Mandatory : No Calculator : None Response Time : N.A Think Time : N.A Minimum Instruction Time : 0

Correct Marks : 5 Wrong Marks : 1

Question Key Details :

Key	Value
Comprehension	MCQ

তলৰ উপন্যাসসমূহৰ মাজত কোনখন শিশু উপন্যাস নহয়?

1. অহিংসা
2. চাৰ্লি আৰু চকলোট ফেক্ট'ৰী
3. এ খাউজেণ্ড স্পেল্ডিড চানচ্
4. বগুৰা

Options :

485584146377. 1
485584146378. 2
485584146379. 3
485584146380. 4

Question Number : 211 Question Id : 48558436596 Question Type : MCQ Option Shuffling : No Is Question Mandatory : No Calculator : None Response Time : N.A Think Time : N.A Minimum Instruction Time : 0

Correct Marks : 5 Wrong Marks : 1

Question Key Details :

Key	Value
Comprehension	MCQ

Which among the following are 'Pros' of 5G Technology?

- A. Greater Transmission Speed
- B. Overcrowded Radio frequency
- C. Increased connectivity
- D. Wider Coverage
- E. High Energy consumption

Choose the correct answer from the options given below:

1. B, C and E only
2. A, C and D only
3. B, C and D only
4. A, C and E only

Options :

485584146381. 1
485584146382. 2
485584146383. 3
485584146384. 4

Question Number : 211 Question Id : 48558436596 Question Type : MCQ Option Shuffling : No Is Question Mandatory : No Calculator : None Response Time : N.A Think Time : N.A Minimum Instruction Time : 0

Correct Marks : 5 Wrong Marks : 1

Question Key Details :

Key	Value
-----	-------

তলৰ কোনবোৰ 5G প্ৰযুক্তিৰ 'সুবিধা'?

- A. অধিক ট্ৰান্সমিছ্যন (সংগৰণ) গতি
- B. ৰেডিঅ' তৰংগৰ জঁট
- C. বৰ্ধিত কানেক্টিভিটি (সংযোগ)
- D. বিস্তাৰিত ব্যাপ্তি
- E. শক্তিৰ অধিক ব্যৱহাৰ

তলৰ বিকল্পসমূহৰপৰা শুদ্ধটো বাছি উলিওৱা:

- 1. কেৱল B, C আৰু E
- 2. কেৱল A, C আৰু D
- 3. কেৱল B, C আৰু D
- 4. কেৱল A, C আৰু E

Options :

- 485584146381. 1
- 485584146382. 2
- 485584146383. 3
- 485584146384. 4

Question Number : 212 Question Id : 48558436597 Question Type : MCQ Option Shuffling : No Is Question Mandatory : No Calculator : None Response Time : N.A Think Time : N.A Minimum Instruction Time : 0

Correct Marks : 5 Wrong Marks : 1

Question Key Details :

Key	Value
Comprehension	MCQ

The Deep web on internet which is not accessible by the regular search engines like Google Bing is known as:

- 1. Black web
- 2. Brown web
- 3. Dirty web
- 4. Dark web

Options :

- 485584146385. 1
- 485584146386. 2
- 485584146387. 3
- 485584146388. 4

Question Number : 212 Question Id : 48558436597 Question Type : MCQ Option Shuffling : No Is Question Mandatory : No Calculator : None Response Time : N.A Think Time : N.A Minimum Instruction Time : 0

Correct Marks : 5 Wrong Marks : 1

Question Key Details :

Key	Value
Comprehension	MCQ

ইণ্টাৰনেটৰ 'ডীপ ৱেব', য'ত গুগলৰ দৰে দৈনন্দিন ব্যৱহৃত ছাৰ্চ ইঞ্জিন বা অনুসন্ধান তন্ত্ৰৰদ্বাৰা প্ৰবেশ কৰিব নোৱাৰি, তাক _____ বুলিও জনা যায়:

1. ব্লেক ৱেব
2. ব্ৰাউন ৱেব
3. ডাৰ্ক ৱেব
4. ডাৰ্ক ৱেব

Options :

485584146385. 1
485584146386. 2
485584146387. 3
485584146388. 4

Question Number : 213 Question Id : 48558436598 Question Type : MCQ Option Shuffling : No Is Question Mandatory : No Calculator : None Response Time : N.A Think Time : N.A Minimum Instruction Time : 0

Correct Marks : 5 Wrong Marks : 1

Question Key Details :

Key	Value
Comprehension	MCQ

In order to foster scientific temper through the means of exciting educational experiences, a teacher can take her students to a:

1. Museum
2. Music program
3. Planetarium
4. Art gallery

Options :

485584146389. 1
485584146390. 2
485584146391. 3
485584146392. 4

Question Number : 213 Question Id : 48558436598 Question Type : MCQ Option Shuffling : No Is Question Mandatory : No Calculator : None Response Time : N.A Think Time : N.A Minimum Instruction Time : 0

Correct Marks : 5 Wrong Marks : 1

Question Key Details :

Key	Value
Comprehension	MCQ

ৰোমাঞ্চকৰ শিক্ষামূলক অভিজ্ঞতাৰ জড়িয়তে বৈজ্ঞানিক মানসিকতাক লালন-পালন কৰিবলৈ এগৰাকী শিক্ষকে তেওঁৰ শিক্ষাৰ্থীসকলক লৈ যাব পাৰে:

1. সংগ্ৰহালয়লৈ
2. সংগীতানুষ্ঠানলৈ
3. ভাৰকাগৃহলৈ
4. আৰ্ট গেলাৰীলৈ

Options :

485584146389. 1
485584146390. 2
485584146391. 3
485584146392. 4

Question Number : 214 Question Id : 48558436599 Question Type : MCQ Option Shuffling : No Is Question Mandatory : No Calculator : None Response Time : N.A Think Time : N.A Minimum Instruction Time : 0

Correct Marks : 5 Wrong Marks : 1

Question Key Details :

Key	Value
Comprehension	MCQ

Jantar Mantar is an assembly of stone-built astronomical instruments, designed to be used with naked eyes. A visit to Jantar Mantar can help students to learn how _____.

1. astronomy was a leisure activity of people in the past.
2. astronomy was practised in buildings made with red stones.
3. people measured time when there were no standard instruments to measure the passing of time.
4. people measured time in those civilizations in which stones were used to build everything.

Options :

485584146393. 1
485584146394. 2
485584146395. 3
485584146396. 4

Question Number : 214 Question Id : 48558436599 Question Type : MCQ Option Shuffling : No Is Question Mandatory : No Calculator : None Response Time : N.A Think Time : N.A Minimum Instruction Time : 0

Correct Marks : 5 Wrong Marks : 1

Question Key Details :

Key	Value
Comprehension	MCQ

যন্তৰ মন্তৰ হৈছে খালী চকুৰে ব্যৱহাৰ কৰিব পৰা তথা শিলেৰে নিৰ্মিত জ্যোতিৰ্বিজ্ঞানমূলক আহিলাৰে ভৰা এখন ঠাই। যন্তৰ মন্তৰ ভ্ৰমণে এগৰাকী বিদ্যাৰ্থীক এয়া জানিবলৈ সহায় কৰে যে কেনেকৈ _____

1. অতীতত জ্যোতিৰ্বিদ্যা মানুহৰ অৱসৰ বিনোদনৰ কাম আছিল।
2. ৰঙা শিলেৰে নিৰ্মিত অট্টালিকাত জ্যোতিৰ্বিদ্যাৰ অনুশীলন কৰা হৈছিল।
3. মানুহে সময় নিৰূপণৰ বাবে কোনো মানক আহিলা নথকা কালতো সময় নিৰূপণ কৰিছিল।
4. মানুহে সেই সন্ধ্যাতাবোৰৰ কালতো সময় নিৰূপণ কৰিছিল যেতিয়া সকলো নিৰ্মাণ কাৰ্য্যৰ বাবে শিল ব্যৱহাৰ কৰা হৈছিল।

Options :

485584146393. 1
485584146394. 2
485584146395. 3
485584146396. 4

Question Number : 215 Question Id : 48558436600 Question Type : MCQ Option Shuffling : No Is Question Mandatory : No Calculator : None Response Time : N.A Think Time : N.A Minimum Instruction Time : 0

Correct Marks : 5 Wrong Marks : 1

Question Key Details :

Key	Value
Comprehension	MCQ

The first country to have entered the Mars orbit in its first attempt is:

1. USA
2. China
3. India
4. Russia

Options :

485584146397. 1
485584146398. 2
485584146399. 3
485584146400. 4

Question Number : 215 Question Id : 48558436600 Question Type : MCQ Option Shuffling : No Is Question Mandatory : No Calculator : None Response Time : N.A Think Time : N.A Minimum Instruction Time : 0

Correct Marks : 5 Wrong Marks : 1

Question Key Details :

Key	Value
Comprehension	MCQ

প্রথম প্রচেষ্টাতে মঙ্গলগ্রহৰ কক্ষপথত প্ৰৱেশ কৰিবলৈ সক্ষম হোৱা প্ৰথম দেশখন হ'ল:

1. আমেৰিকা যুক্তৰাষ্ট্ৰ
2. চীন
3. ভাৰতবৰ্ষ
4. ৰাছিয়া

Options :

485584146397. 1
485584146398. 2
485584146399. 3
485584146400. 4

Question Number : 216 Question Id : 48558436601 Question Type : MCQ Option Shuffling : No Is Question Mandatory : No Calculator : None Response Time : N.A Think Time : N.A Minimum Instruction Time : 0

Correct Marks : 5 Wrong Marks : 1

Question Key Details :

Key	Value
Comprehension	MCQ

The project of 'NASA' targeting the landing of first woman/women astronaut/s on moon is known as:

1. MOM
2. ARTEMIS
3. MISMOON
4. Moon opposition

Options :

485584146401. 1
485584146402. 2
485584146403. 3
485584146404. 4

Question Number : 216 Question Id : 48558436601 Question Type : MCQ Option Shuffling : No Is Question Mandatory : No Calculator : None Response Time : N.A Think Time : N.A Minimum Instruction Time : 0

Correct Marks : 5 Wrong Marks : 1

Question Key Details :

Key	Value
Comprehension	MCQ

'NASA'ই প্রথম মহিলা মহাকাশচাৰী গৰাকী মহাকাশচাৰীসকলক চন্দ্ৰত অৱতাৰণা কৰাৰ উদ্দেশ্য আগত ৰাখি প্ৰস্তুত কৰা প্ৰকল্পটোক এইবুলি জনা যায়:

1. MOM

2. ARTEMIS

3. MISMOON

4. Moon opposition

Options :

485584146401. 1

485584146402. 2

485584146403. 3

485584146404. 4

Question Number : 217 Question Id : 48558436602 Question Type : MCQ Option Shuffling : No Is Question Mandatory : No Calculator : None Response Time : N.A Think Time : N.A Minimum Instruction Time : 0

Correct Marks : 5 Wrong Marks : 1

Question Key Details :

Key	Value
Comprehension	MCQ

Which of the following is NOT true: The turning points of the graph of a function :

1. Represent local maxima and local minima
2. Represent Absolute maxima and Absolute minima
3. Represent point of inflexion
4. Represent neither local maxima nor local minima

Options :

485584146405. 1

485584146406. 2

485584146407. 3

485584146408. 4

Question Number : 217 Question Id : 48558436602 Question Type : MCQ Option Shuffling : No Is Question Mandatory : No Calculator : None Response Time : N.A Think Time : N.A Minimum Instruction Time : 0

Correct Marks : 5 Wrong Marks : 1

Question Key Details :

Key	Value
Comprehension	MCQ

তলৰ কোনটো সত্য নহয়:

ফলন এটাৰ লেখডালৰ কেঁকুৰিৰ বিন্দুবোৰে:

1. স্থানীয় গৰিষ্ঠ মান আৰু স্থানীয় লঘিষ্ঠ মানক প্ৰতিনিধিত্ব কৰে।
2. পৰম গৰিষ্ঠ মান আৰু পৰম লঘিষ্ঠ মানক প্ৰতিনিধিত্ব কৰে।
3. নতি-পৰিৱৰ্তন বিন্দুক প্ৰতিনিধিত্ব কৰে।
4. স্থানীয় গৰিষ্ঠ মান আৰু স্থানীয় লঘিষ্ঠ মান কোনোটোকে প্ৰতিনিধিত্ব নকৰে।

Options :

485584146405. 1
485584146406. 2
485584146407. 3
485584146408. 4

Question Number : 218 Question Id : 48558436603 Question Type : MCQ Option Shuffling : No Is Question Mandatory : No Calculator : None Response Time : N.A Think Time : N.A Minimum Instruction Time : 0

Correct Marks : 5 Wrong Marks : 1

Question Key Details :

Key	Value
Comprehension	MCQ

Any teaching activity which puts before the students the real problems, that they have to solve for themselves, problems for which there are no easy solutions in any book _____.

1. brings them close to guide books
2. makes them skilled
3. crafts their activity
4. sharpens their intelligence

Options :

485584146409. 1
485584146410. 2
485584146411. 3
485584146412. 4

Question Number : 218 Question Id : 48558436603 Question Type : MCQ Option Shuffling : No Is Question Mandatory : No Calculator : None Response Time : N.A Think Time : N.A Minimum Instruction Time : 0

Correct Marks : 5 Wrong Marks : 1

Question Key Details :

Key	Value
Comprehension	MCQ

যদি বিদ্যার্থীৰ আগত কোনো শৈক্ষিক কাৰ্যকলাপৰ যোগেদি কোনো বস্তুৰ সমস্যা দাপ্তি ধৰা হয়, যাৰ কোনো সহজ সমাধান কোনো কিতাপত পোৱা নাযায় আৰু যাক বিদ্যার্থীসকলে নিজে নিজৰ বাবে সমাধান কৰিবলগীয়া হয় তেনেক্ষেত্ৰত,

1. তেওঁলোকে সহায়িকা পুথি বা গাইড বুকৰ কাষ চাপে।
2. তেওঁলোকক কৌশলী কৰি তোলে।
3. তেওঁলোকক কাৰ্য্যত নিপুণ কৰি তোলে।
4. তেওঁলোকৰ বুদ্ধিমত্তা তীক্ষ্ণ কৰি তোলে।

Options :

485584146409. 1
485584146410. 2
485584146411. 3
485584146412. 4

Question Number : 219 Question Id : 48558436604 Question Type : MCQ Option Shuffling : No Is Question Mandatory : No Calculator : None Response Time : N.A Think Time : N.A Minimum Instruction Time : 0

Correct Marks : 5 Wrong Marks : 1

Question Key Details :

Key	Value
Comprehension	MCQ

A mathematics teacher told the students that her laptop and phone can run out of charge independently of each other. The probability that her phone is out of charge is 0.2 and the probability that they are both out of charge is 0.06. Find the probability that her laptop is out of charge.

1. 0.86
2. 0.4
3. 0.3
4. 0.14

Options :

485584146413. 1
485584146414. 2
485584146415. 3
485584146416. 4

Question Number : 219 Question Id : 48558436604 Question Type : MCQ Option Shuffling : No Is Question Mandatory : No Calculator : None Response Time : N.A Think Time : N.A Minimum Instruction Time : 0

Correct Marks : 5 Wrong Marks : 1

Question Key Details :

Key	Value
Comprehension	MCQ

গণিতৰ শিক্ষক এগৰাকীয়ে তেওঁৰ বিদ্যার্থীসকলক কৈছিল যে তেওঁৰ লেপটপ আৰু ফোন দুয়োটাৰে চার্জ শেষ হ'ব পাৰে আৰু ইটোৰ সিটোৰ লগত সম্পৰ্ক নাই। তেওঁৰ ফোনটোৰ চার্জ শেষ হোৱাৰ সম্ভাৱিতা হ'ল 0.2 আৰু দুয়োটাৰে চার্জ শেষ হোৱাৰ সম্ভাৱিতা হ'ল 0.6। তেওঁৰ লেপটপটোৰ চার্জ শেষ হোৱাৰ সম্ভাৱিতা নিৰ্ণয় কৰা।

1. 0.86

2. 0.4

3. 0.3

4. 0.14

Options :

485584146413. 1

485584146414. 2

485584146415. 3

485584146416. 4

Question Number : 220 Question Id : 48558436605 Question Type : MCQ Option Shuffling : No Is Question Mandatory : No Calculator : None Response Time : N.A Think Time : N.A Minimum Instruction Time : 0

Correct Marks : 5 Wrong Marks : 1

Question Key Details :

Key	Value
Comprehension	MCQ

By explaining the theory of probability a teacher told that "For a particular E_i we can use a special formula."

Which theorem is he/she teaching?

1. Conditional Probability Theorem

2. Multiplication Theorem

3. Baye's Theorem

4. Total Probability Theorem

Options :

485584146417. 1

485584146418. 2

485584146419. 3

485584146420. 4

Question Number : 220 Question Id : 48558436605 Question Type : MCQ Option Shuffling : No Is Question Mandatory : No Calculator : None Response Time : N.A Think Time : N.A Minimum Instruction Time : 0

Correct Marks : 5 Wrong Marks : 1

Question Key Details :

Key	Value
Comprehension	MCQ

সম্ভাৰিতাৰ সূত্ৰটো ব্যাখ্যা কৰি এগৰাকী শিক্ষকে ক'লে, "কোনো নিৰ্দিষ্ট E_2 -ৰ বাবে আমি এটা বিশেষ সূত্ৰ ব্যৱহাৰ কৰিব পাৰোঁ।"

শিক্ষকগৰাকীয়ে কোনটো সূত্ৰ শিকাই আছিল?

1. চৰ্তাবদ্ধ সম্ভাৰিতা সূত্ৰ
2. গুণানীকৰণৰ সূত্ৰ
3. বে'ইৰ সূত্ৰ
4. পূৰ্ণ সম্ভাৰিতাৰ সূত্ৰ

Options :

485584146417. 1

485584146418. 2

485584146419. 3

485584146420. 4

Question Number : 221 Question Id : 48558436606 Question Type : MCQ Option Shuffling : No Is Question Mandatory : No Calculator : None Response Time : N.A Think Time : N.A Minimum Instruction Time : 0

Correct Marks : 5 Wrong Marks : 1

Question Key Details :

Key	Value
Comprehension	MCQ

If a child draws a tree by observing the trees in her surroundings and her teacher introduced scale drawings to her, the experience can help her to develop a _____.

1. sense of aesthetics
2. sense of proportion
3. sense of perspective
4. sense of transference

Options :

485584146421. 1

485584146422. 2

485584146423. 3

485584146424. 4

Question Number : 221 Question Id : 48558436606 Question Type : MCQ Option Shuffling : No Is Question Mandatory : No Calculator : None Response Time : N.A Think Time : N.A Minimum Instruction Time : 0

Correct Marks : 5 Wrong Marks : 1

Question Key Details :

Key	Value
Comprehension	MCQ

যদি কোনো শিশুৱে তাৰ চৌদিশে লক্ষ্য কৰি এডাল গছৰ ছবি আঁকে আৰু তাৰ শিক্ষকে ছবি আঁকাত কেৱলৰ ব্যৱহাৰ শিকায়, তেন্তে সেই অভিজ্ঞতাই তাৰ _____ বিকাশত সহায় কৰিব।

1. সৌন্দৰ্য্যৰ জ্ঞান
2. আনুপাতিক জ্ঞান
3. পৰিপ্ৰেক্ষিতৰ জ্ঞান
4. স্থানান্তৰণৰ জ্ঞান

Options :

485584146421. 1
485584146422. 2
485584146423. 3
485584146424. 4

Question Number : 222 Question Id : 48558436607 Question Type : MCQ Option Shuffling : No Is Question Mandatory : No Calculator : None Response Time : N.A Think Time : N.A Minimum Instruction Time : 0

Correct Marks : 5 Wrong Marks : 1

Question Key Details :

Key	Value
Comprehension	MCQ

A lot of school children find mathematics very difficult and social sciences easy. One of the reasons for their perceptive is that

1. mathematics demands expression
2. mathematics is not common knowledge
3. mathematics demands precision
4. mathematics involves concrete images

Options :

485584146425. 1
485584146426. 2
485584146427. 3
485584146428. 4

Question Number : 222 Question Id : 48558436607 Question Type : MCQ Option Shuffling : No Is Question Mandatory : No Calculator : None Response Time : N.A Think Time : N.A Minimum Instruction Time : 0

Correct Marks : 5 Wrong Marks : 1

Question Key Details :

Key	Value
Comprehension	MCQ

বিদ্যালয়ত পঢ়া বহুতো বিদ্যার্থীয়ে গণিত বিষয়টো খুব টান আৰু সমাজ বিজ্ঞান বিষয়টো সহজ পায়।
তেওঁলোকে এনে ধাৰণা কৰাৰ আঁৰত থকা কাৰণসমূহৰ এটা হ'ল:

1. গণিতে প্ৰকাশবাৰ্ষিক প্ৰাধান্য দিয়ে
2. গণিত সাধাৰণ জ্ঞান নহয়
3. গণিতে পৰিশুদ্ধতাক প্ৰাধান্য দিয়ে
4. গণিতে কংক্ৰিট বা সুসংগঠিত চিত্ৰক সাঙুৰি লয়

Options :

485584146425. 1
485584146426. 2
485584146427. 3
485584146428. 4

**Question Number : 223 Question Id : 48558436608 Question Type : MCQ Option Shuffling : No Is Question Mandatory :
No Calculator : None Response Time : N.A Think Time : N.A Minimum Instruction Time : 0**

Correct Marks : 5 Wrong Marks : 1

Question Key Details :

Key	Value
Comprehension	MCQ

National Gallery of Modern Art (NGMA) is situated in

1. London
2. California
3. Kolkata
4. New Delhi

Options :

485584146429. 1
485584146430. 2
485584146431. 3
485584146432. 4

**Question Number : 223 Question Id : 48558436608 Question Type : MCQ Option Shuffling : No Is Question Mandatory :
No Calculator : None Response Time : N.A Think Time : N.A Minimum Instruction Time : 0**

Correct Marks : 5 Wrong Marks : 1

Question Key Details :

Key	Value
Comprehension	MCQ

নেশ্যানেল গেলাৰী অৱ মডাৰ্ন আৰ্ট (NGMA) _____ ত অৱস্থিত।

1. লণ্ডন
2. কেলিফ'ৰ্নিয়া
3. কলকাতা
4. নতুন দিল্লী

Options :

485584146429. 1
485584146430. 2
485584146431. 3
485584146432. 4

Question Number : 224 Question Id : 48558436609 Question Type : MCQ Option Shuffling : No Is Question Mandatory : No Calculator : None Response Time : N.A Think Time : N.A Minimum Instruction Time : 0

Correct Marks : 5 Wrong Marks : 1

Question Key Details :

Key	Value
Comprehension	MCQ

Which School of Art was also known as Graeco Buddhist School of Art?

1. Amravati School of Art
2. Mathura School of Art
3. Gandhara School of Art
4. Bengal School of Art

Options :

485584146433. 1
485584146434. 2
485584146435. 3
485584146436. 4

Question Number : 224 Question Id : 48558436609 Question Type : MCQ Option Shuffling : No Is Question Mandatory : No Calculator : None Response Time : N.A Think Time : N.A Minimum Instruction Time : 0

Correct Marks : 5 Wrong Marks : 1

Question Key Details :

Key	Value
Comprehension	MCQ

শিল্পকলাৰ কোনটো স্কুল বা শৈলী "শ্ৰেণীকো বুদ্ধিষ্ট স্কুল অৱ আৰ্ট" নামেৰেও জনাজাত?

1. অমৰাৱতী স্কুল অৱ আৰ্ট (অমৰাৱতী শিল্পকলা শৈলী)
2. মথুৰা স্কুল অৱ আৰ্ট (মথুৰা শিল্পকলা শৈলী)
3. গান্ধাৰ স্কুল অৱ আৰ্ট (গান্ধাৰ শিল্পকলা শৈলী)
4. বেংগল স্কুল অৱ আৰ্ট (বেংগ শিল্পকলা শৈলী)

Options :

485584146433. 1
485584146434. 2
485584146435. 3
485584146436. 4

Question Number : 225 Question Id : 48558436610 Question Type : MCQ Option Shuffling : No Is Question Mandatory : No Calculator : None Response Time : N.A Think Time : N.A Minimum Instruction Time : 0

Correct Marks : 5 Wrong Marks : 1

Question Key Details :

Key	Value
Comprehension	MCQ

What was the profession of Partha Mitter?

1. Painter
2. Sculptor
3. Art Historian
4. Architect

Options :

485584146437. 1
485584146438. 2
485584146439. 3
485584146440. 4

Question Number : 225 Question Id : 48558436610 Question Type : MCQ Option Shuffling : No Is Question Mandatory : No Calculator : None Response Time : N.A Think Time : N.A Minimum Instruction Time : 0

Correct Marks : 5 Wrong Marks : 1

Question Key Details :

Key	Value
Comprehension	MCQ

পাৰ্থ মিট্ৰবৰ বৃত্তি কি আছিল?

1. চিত্ৰকৰ
2. ভাষ্কৰ্য্য শিল্পী
3. শিল্প বুৰঞ্জীবিদ
4. স্থপতিবিদ

Options :

485584146437. 1
485584146438. 2
485584146439. 3
485584146440. 4

Question Number : 226 Question Id : 48558436611 Question Type : MCQ Option Shuffling : No Is Question Mandatory : No Calculator : None Response Time : N.A Think Time : N.A Minimum Instruction Time : 0

Correct Marks : 5 Wrong Marks : 1

Question Key Details :

Key	Value
Comprehension	MCQ

'Contemporary Art in India : A perspective' is a book written by

1. Pran Nath Mago
2. Jasleen Dhamija
3. K. R. Srinivasan
4. Devi Prasad

Options :

485584146441. 1
485584146442. 2
485584146443. 3
485584146444. 4

Question Number : 226 Question Id : 48558436611 Question Type : MCQ Option Shuffling : No Is Question Mandatory : No Calculator : None Response Time : N.A Think Time : N.A Minimum Instruction Time : 0

Correct Marks : 5 Wrong Marks : 1

Question Key Details :

Key	Value
Comprehension	MCQ

‘কণ্ঠেম্পোৰাৰী আৰ্ট ইন ইণ্ডিয়া: এ পাৰ্চপেক্টিভ’ কিতাপখনৰ ৰচক হ’ল:

1. প্ৰাণ নাথ মাগো
2. জেছলীন ডামিজা
3. কে. আৰ. শ্ৰীনিৱাসন
4. দেৱী প্ৰসাদ

Options :

485584146441. 1
485584146442. 2
485584146443. 3
485584146444. 4

Question Number : 227 Question Id : 48558436612 Question Type : MCQ Option Shuffling : No Is Question Mandatory : No Calculator : None Response Time : N.A Think Time : N.A Minimum Instruction Time : 0

Correct Marks : 5 Wrong Marks : 1

Question Key Details :

Key	Value
Comprehension	MCQ

A technique of portraying an object to be closer than it actually is, or having less depth or distance, is called _____.

1. Depth of field
2. Foreshortening
3. Focusing
4. Illustration

Options :

485584146445. 1
485584146446. 2
485584146447. 3
485584146448. 4

Question Number : 227 Question Id : 48558436612 Question Type : MCQ Option Shuffling : No Is Question Mandatory : No Calculator : None Response Time : N.A Think Time : N.A Minimum Instruction Time : 0

Correct Marks : 5 Wrong Marks : 1

Question Key Details :

Key	Value
Comprehension	MCQ

কোনো বস্তু প্রকৃততকৈ ওচৰত থকা বা কম গভীৰতা বা দূৰত্বত থকা দেখুৱাবলৈ ব্যৱহাৰ কৰা অংকন কৌশলটোক কোৱা হয় _____।

1. ক্ষেত্ৰৰ গভীৰতা
2. ফ'ৰছৰ্টেনিং
3. ফ'কাচিং
4. ব্যাখ্যা চিত্ৰণ

Options :

485584146445. 1
485584146446. 2
485584146447. 3
485584146448. 4

Question Number : 228 Question Id : 48558436613 Question Type : MCQ Option Shuffling : No Is Question Mandatory : No Calculator : None Response Time : N.A Think Time : N.A Minimum Instruction Time : 0

Correct Marks : 5 Wrong Marks : 1

Question Key Details :

Key	Value
Comprehension	MCQ

The artwork 'Santhal Family' made by Ramkinker Vajjis is which medium/ form

1. Oil Painting
2. Mural
3. Sculpture
4. Monograph

Options :

485584146449. 1
485584146450. 2
485584146451. 3
485584146452. 4

Question Number : 228 Question Id : 48558436613 Question Type : MCQ Option Shuffling : No Is Question Mandatory : No Calculator : None Response Time : N.A Think Time : N.A Minimum Instruction Time : 0

Correct Marks : 5 Wrong Marks : 1

Question Key Details :

Key	Value
Comprehension	MCQ

'চান্দাল ফেমিনি' চিত্ৰশিল্পখন ৰামকিংকৰ ভাইজীয়ে কোনটো মাধ্যম/ৰূপত প্ৰস্তুত কৰিছিল?

1. তৈলচিত্ৰ
2. মূৰাল
3. ভাস্কৰ্য্য
4. মনোগ্ৰাফ

Options :

485584146449. 1
485584146450. 2
485584146451. 3
485584146452. 4

Question Number : 229 Question Id : 48558436614 Question Type : MCQ Option Shuffling : No Is Question Mandatory : No Calculator : None Response Time : N.A Think Time : N.A Minimum Instruction Time : 0

Correct Marks : 5 Wrong Marks : 1

Question Key Details :

Key	Value
Comprehension	MCQ

Match List I with List II

LIST I		LIST II	
A.	Intrusive igneous rock	I.	Slate
B.	Extrusive igneous rock	II.	Basalt
C.	Sedimentary rock	III.	Granite
D.	Metamorphic rock	IV.	Lime stone

Choose the correct answer from the options given below:

1. A-III, B-II, C-IV, D-I
2. A-I, B-II, C-III, D-IV
3. A-IV, B-III, C-II, D-I
4. A-II, B-III, C-I, D-IV

Options :

485584146453. 1
485584146454. 2
485584146455. 3
485584146456. 4

Question Number : 229 Question Id : 48558436614 Question Type : MCQ Option Shuffling : No Is Question Mandatory : No Calculator : None Response Time : N.A Think Time : N.A Minimum Instruction Time : 0

Correct Marks : 5 Wrong Marks : 1

Question Key Details :

Key	Value
-----	-------

তালিকা I-ৰ সৈতে তালিকা II মিলোৱা:

তালিকা I		তালিকা II	
A.	অস্তভেদী আগ্নেয় শিলা	I.	গ্লেট
B.	উদগীৰ্ণ বা বহিঃভেদী আগ্নেয় শিলা	II.	বেছল্ট
C.	সেদীয় শিলা	III.	গ্ৰেনাইট
D.	ৰূপান্তৰিত শিলা	IV.	চুণ শিলা

তলৰ বিকল্পসমূহৰপৰা শুদ্ধ উত্তৰটো বাছি উলিওৱা:

1. A-III, B-II, C-IV, D-I
2. A-I, B-II, C-III, D-IV
3. A-IV, B-III, C-II, D-I
4. A-II, B-III, C-I, D-IV

Options :

485584146453. 1
485584146454. 2
485584146455. 3
485584146456. 4

Question Number : 230 Question Id : 48558436615 Question Type : MCQ Option Shuffling : No Is Question Mandatory : No Calculator : None Response Time : N.A Think Time : N.A Minimum Instruction Time : 0

Correct Marks : 5 Wrong Marks : 1

Question Key Details :

Key	Value
Comprehension	MCQ

The content of teaching social sciences should aim at raising students' awareness through

1. questioning of familiar social reality
2. enacting of familiar social reality
3. developing a neutral perspective on society
4. transmitting an idea of society

Options :

485584146457. 1
485584146458. 2
485584146459. 3
485584146460. 4

Question Number : 230 Question Id : 48558436615 Question Type : MCQ Option Shuffling : No Is Question Mandatory : No Calculator : None Response Time : N.A Think Time : N.A Minimum Instruction Time : 0

Correct Marks : 5 Wrong Marks : 1

Question Key Details :

Key	Value
Comprehension	MCQ

সমাজ বিজ্ঞানৰ পাঠ্যক্ৰম শিক্ষণত _____ ৰ দ্বাৰা বিদ্যাৰ্থীৰ সচেতনতা বৰ্ধনৰ প্ৰতি লক্ষ্য ৰখা উচিত।

1. পৰিচিত সামাজিক বাস্তৱতাক প্ৰশ্ন কৰা
2. পৰিচিত সামাজিক বাস্তৱতাক বলৱৎ কৰা
3. সমাজত নিৰপেক্ষ প্ৰেক্ষাপটৰ বিকাশ কৰা
4. সমাজ সম্বন্ধীয় এক ধাৰণা সঞ্চাৰিত কৰা

Options :

485584146457. 1
485584146458. 2
485584146459. 3
485584146460. 4

Question Number : 231 Question Id : 48558436616 Question Type : MCQ Option Shuffling : No Is Question Mandatory : No Calculator : None Response Time : N.A Think Time : N.A Minimum Instruction Time : 0

Correct Marks : 5 Wrong Marks : 1

Question Key Details :

Key	Value
Comprehension	MCQ

Who wrote the book "History of British India" ?

1. James Mill
2. James Rainil
3. Warren Hastings
4. Cornwallis

Options :

485584146461. 1
485584146462. 2
485584146463. 3
485584146464. 4

Question Number : 231 Question Id : 48558436616 Question Type : MCQ Option Shuffling : No Is Question Mandatory : No Calculator : None Response Time : N.A Think Time : N.A Minimum Instruction Time : 0

Correct Marks : 5 Wrong Marks : 1

Question Key Details :

Key	Value
Comprehension	MCQ

"History of British India" কিতাপখন কোনে লিখিছিল?

1. জেমছ মিল
2. জেমছ বেইনিল
3. ৰাৰেন হেছটিংছ
4. কৰ্নৱালিছ

Options :

485584146461. 1
485584146462. 2
485584146463. 3
485584146464. 4

Question Number : 232 Question Id : 48558436617 Question Type : MCQ Option Shuffling : No Is Question Mandatory : No Calculator : None Response Time : N.A Think Time : N.A Minimum Instruction Time : 0

Correct Marks : 5 Wrong Marks : 1

Question Key Details :

Key	Value
Comprehension	MCQ

The school level social sciences encompass _____ concerns of society and include a wide range of content drawn from various disciplines.

1. unitary
2. overarching
3. diverse
4. sweeping

Options :

485584146465. 1
485584146466. 2
485584146467. 3
485584146468. 4

Question Number : 232 Question Id : 48558436617 Question Type : MCQ Option Shuffling : No Is Question Mandatory : No Calculator : None Response Time : N.A Think Time : N.A Minimum Instruction Time : 0

Correct Marks : 5 Wrong Marks : 1

Question Key Details :

Key	Value
Comprehension	MCQ

বিদ্যালয় স্তৰৰ সমাজ বিজ্ঞানৰ পাঠ্যক্রমত সমাজৰ উদ্দেশ্যসমূহ সন্নিৱিষ্ট কৰা হয় আৰু ইয়াত বিভিন্ন শাখাৰপৰা আহৰণ কৰা এক ব্যাপক পৰিসৰৰ বিষয়বস্তু সামৰি লোৱা হয়।

1. একদৰ্শী
2. ব্যাপক
3. বৈচিত্ৰপূৰ্ণ
4. সামগ্ৰিক বা সকলোকে সাঙোৰা

Options :

485584146465. 1
485584146466. 2
485584146467. 3
485584146468. 4

Question Number : 233 Question Id : 48558436618 Question Type : MCQ Option Shuffling : No Is Question Mandatory : No Calculator : None Response Time : N.A Think Time : N.A Minimum Instruction Time : 0

Correct Marks : 5 Wrong Marks : 1

Question Key Details :

Key	Value
Comprehension	MCQ

Which of the following subjects has replaced 'civics' in the school syllabus?

1. Civilization
2. Social and Political life
3. Economic and Social Life
4. Nationalism

Options :

485584146469. 1
485584146470. 2
485584146471. 3
485584146472. 4

Question Number : 233 Question Id : 48558436618 Question Type : MCQ Option Shuffling : No Is Question Mandatory : No Calculator : None Response Time : N.A Think Time : N.A Minimum Instruction Time : 0

Correct Marks : 5 Wrong Marks : 1

Question Key Details :

Key	Value
Comprehension	MCQ

তলৰ বিষয়সমূহৰ কোনটোৱে বিদ্যালয়ৰ পাঠ্যক্ৰমত 'চিভিকছ' বিষয়টোৰ স্থান লৈছে?

1. সভ্যতা
2. সামাজিক আৰু ৰাজনৈতিক জীৱন
3. অৰ্থনৈতিক আৰু সামাজিক জীৱন
4. জাতীয়তাবাদ

Options :

485584146469. 1
485584146470. 2
485584146471. 3
485584146472. 4

Question Number : 234 Question Id : 48558436619 Question Type : MCQ Option Shuffling : No Is Question Mandatory : No Calculator : None Response Time : N.A Think Time : N.A Minimum Instruction Time : 0

Correct Marks : 5 Wrong Marks : 1

Question Key Details :

Key	Value
Comprehension	MCQ

Today, if a teacher wants to teach the importance of good deeds and practicing non-violence, she can use the following as a resource:

1. Ambedkar's writings
2. Jaina teachings
3. Puranic Literature
4. Akbarnama

Options :

485584146473. 1
485584146474. 2
485584146475. 3
485584146476. 4

Question Number : 234 Question Id : 48558436619 Question Type : MCQ Option Shuffling : No Is Question Mandatory : No Calculator : None Response Time : N.A Think Time : N.A Minimum Instruction Time : 0

Correct Marks : 5 Wrong Marks : 1

Question Key Details :

Key	Value
Comprehension	MCQ

যদি এগৰাকী শিক্ষকে সৎ কৰ্মৰ গুৰুত্ব আৰু অহিংসাৰ অনুশীলনৰ বিষয়ে শিকাবলৈ বিচাৰে তেন্তে তেওঁ উৎস হিচাপে ব্যৱহাৰ কৰিব পাৰে:

1. আত্মদেহকাৰৰ লিখনিসমূহ
2. জৈন উপদেশমালা
3. পৌৰাণিক সাহিত্য
4. আকবৰনামা

Options :

485584146473. 1
485584146474. 2
485584146475. 3
485584146476. 4

Question Number : 235 Question Id : 48558436620 Question Type : MCQ Option Shuffling : No Is Question Mandatory : No Calculator : None Response Time : N.A Think Time : N.A Minimum Instruction Time : 0

Correct Marks : 5 Wrong Marks : 1

Question Key Details :

Key	Value
Comprehension	MCQ

Literary devices such as simile and metaphor are used in which of the following?

1. Prose
2. Poetry
3. Grammar
4. Drama

Options :

485584146477. 1
485584146478. 2
485584146479. 3
485584146480. 4

Question Number : 235 Question Id : 48558436620 Question Type : MCQ Option Shuffling : No Is Question Mandatory : No Calculator : None Response Time : N.A Think Time : N.A Minimum Instruction Time : 0

Correct Marks : 5 Wrong Marks : 1

Question Key Details :

Key	Value
Comprehension	MCQ

উপমা আৰু ৰূপকৰ দৰে সাহিত্যিক অলংকাৰ তলৰ কোনটোত ব্যৱহাৰ কৰা হয়?

1. গদ্য
2. কবিতা
3. ব্যাকৰণ
4. নাটক

Options :

485584146477. 1
485584146478. 2
485584146479. 3
485584146480. 4

Question Number : 236 Question Id : 48558436621 Question Type : MCQ Option Shuffling : No Is Question Mandatory : No Calculator : None Response Time : N.A Think Time : N.A Minimum Instruction Time : 0

Correct Marks : 5 Wrong Marks : 1

Question Key Details :

Key	Value
Comprehension	MCQ

'Man is a born child, his power is the power of growth.'

What is the meaning of this sentence?

1. Humans should remain stagnant
2. Humans should refrain from adding to sources of knowledge
3. Intellectual and cognitive regression are important characteristics of humans
4. Intellectual and cognitive development are important characteristics of human.

Options :

485584146481. 1
485584146482. 2
485584146483. 3
485584146484. 4

Question Number : 236 Question Id : 48558436621 Question Type : MCQ Option Shuffling : No Is Question Mandatory : No Calculator : None Response Time : N.A Think Time : N.A Minimum Instruction Time : 0

Correct Marks : 5 Wrong Marks : 1

Question Key Details :

Key	Value
Comprehension	MCQ

"Man is a born child, his power is the power of growth."- এই বাক্যশাৰীৰ অৰ্থ কি?

1. মানৱজাতি স্থবিৰ হৈ থকা উচিত
2. জ্ঞানৰ নৱ নৱ উৎস অন্বেষণৰপৰা মানৱজাতি বিৰত থকা উচিত
3. বুদ্ধিমত্তা আৰু সজ্ঞানতাৰ পশ্চাদগমন মানৱজাতিৰ গুৰুত্বপূৰ্ণ বৈশিষ্ট্য
4. বুদ্ধিমত্তা আৰু সজ্ঞানতাৰ বিকাশ মানৱজাতিৰ গুৰুত্বপূৰ্ণ বৈশিষ্ট্য

Options :

485584146481. 1
485584146482. 2
485584146483. 3
485584146484. 4

Question Number : 237 Question Id : 48558436622 Question Type : MCQ Option Shuffling : No Is Question Mandatory : No Calculator : None Response Time : N.A Think Time : N.A Minimum Instruction Time : 0

Correct Marks : 5 Wrong Marks : 1

Question Key Details :

Key	Value
Comprehension	MCQ

The Booker Prize 2022 was awarded to which Indian novel?

1. The Alchemist
2. A Tomb of Sand
3. Train to Pakistan
4. One Hundred Years of Solitude

Options :

485584146485. 1
485584146486. 2
485584146487. 3
485584146488. 4

Question Number : 237 Question Id : 48558436622 Question Type : MCQ Option Shuffling : No Is Question Mandatory : No Calculator : None Response Time : N.A Think Time : N.A Minimum Instruction Time : 0

Correct Marks : 5 Wrong Marks : 1

Question Key Details :

Key	Value
Comprehension	MCQ

কোনখন ভাৰতীয় উপন্যাসক ২০২২ বৰ্ষৰ নুকাৰ প্ৰাইজেৰে পুৰস্কৃত কৰা হৈছিল?

1. দা এলকেমিষ্ট
2. এ টাম্ব অৱ ছেণ্ড
3. ট্ৰেইন টু পাকিস্তান
4. ৱান হাণ্ডেড ইয়াৰ্ছ অৱ ছ'লিটাৰ্ড

Options :

485584146485. 1
485584146486. 2
485584146487. 3
485584146488. 4

Question Number : 238 Question Id : 48558436623 Question Type : MCQ Option Shuffling : No Is Question Mandatory : No Calculator : None Response Time : N.A Think Time : N.A Minimum Instruction Time : 0

Correct Marks : 5 Wrong Marks : 1

Question Key Details :

Key	Value
Comprehension	MCQ

What are the challenges faced by students while learning English in India?

- A. Lack of trained teachers
- B. Lack of an enabling language environment
- C. Rote memorisation of poems
- D. Objective way of testing language skills
- E. Lack of proper teaching - learning materials

Choose the correct answer from the options given below:

1. A, B, C only
2. B, C, D only
3. A, B, C, D only
4. A, B, C, D and E

Options :

485584146489. 1
485584146490. 2
485584146491. 3
485584146492. 4

Question Number : 238 Question Id : 48558436623 Question Type : MCQ Option Shuffling : No Is Question Mandatory : No Calculator : None Response Time : N.A Think Time : N.A Minimum Instruction Time : 0

Correct Marks : 5 Wrong Marks : 1

Question Key Details :

Key	Value
-----	-------

ভাৰতবৰ্ষত ইংৰাজী শিক্ষাৰ বেলিকা বিদ্যাৰ্থীসকলে কি কি প্ৰত্যাহ্বানৰ সন্মুখীন হয়?

- প্ৰশিক্ষণপ্ৰাপ্ত শিক্ষকৰ অভাৱ
- উপযুক্ত ভাষিক পৰিৱেশ সৃষ্টিৰ অভাৱ
- ভাটৌৰ দৰে পদ্য মুখস্থ কৰা
- ভাষিক কৌশল পৰীক্ষণৰ বস্তুগত পদ্ধতিৰ অভাৱ
- শিক্ষা-শিক্ষণৰ উপযুক্ত সামগ্ৰীৰ অভাৱ

তলত দিয়া বিকল্পসমূহৰপৰা শুদ্ধ উত্তৰটো বাছি উলিওৱা:

- কেৱল A, B, C
- কেৱল B, C, D
- কেৱল A, B, C, D
- A, B, C, D আৰু E

Options :

485584146489. 1
485584146490. 2
485584146491. 3
485584146492. 4

Question Number : 239 Question Id : 48558436624 Question Type : MCQ Option Shuffling : No Is Question Mandatory : No Calculator : None Response Time : N.A Think Time : N.A Minimum Instruction Time : 0

Correct Marks : 5 Wrong Marks : 1

Question Key Details :

Key	Value
Comprehension	MCQ

What is a biography?

- An account of a person written by oneself.
- An account of a person written by others.
- A book of biology.
- A historical account.

Options :

485584146493. 1
485584146494. 2
485584146495. 3
485584146496. 4

Question Number : 239 Question Id : 48558436624 Question Type : MCQ Option Shuffling : No Is Question Mandatory : No Calculator : None Response Time : N.A Think Time : N.A Minimum Instruction Time : 0

Correct Marks : 5 Wrong Marks : 1

Question Key Details :

Key	Value
Comprehension	MCQ

জীৱনী মানে কি?

1. কোনো ব্যক্তিয়ে নিজৰ জীৱনৰ বিষয়ে লিখা বিৱৰণ
2. কোনো ব্যক্তিৰ জীৱনৰ বিষয়ে আনে লিখা বিৱৰণ
3. জীৱবিদ্যাৰ এখন কিতাপ
4. কোনো বুৰঞ্জীমূলক বিৱৰণ

Options :

485584146493. 1
485584146494. 2
485584146495. 3
485584146496. 4

Question Number : 240 Question Id : 48558436625 Question Type : MCQ Option Shuffling : No Is Question Mandatory : No Calculator : None Response Time : N.A Think Time : N.A Minimum Instruction Time : 0

Correct Marks : 5 Wrong Marks : 1

Question Key Details :

Key	Value
Comprehension	MCQ

How can grammar books be modified to minimise the difficulties learners face while learning grammar?

- A. By teaching grammar in context
- B. By including pictures and illustrations
- C. By giving more practice and examples
- D. By focusing only on the rules
- E. By translating in different languages

Choose the correct answer from the options given below:

1. A, B, C only
2. A, D, E only
3. C, D, E only
4. B, C, D only

Options :

485584146497. 1
485584146498. 2
485584146499. 3
485584146500. 4

Question Number : 240 Question Id : 48558436625 Question Type : MCQ Option Shuffling : No Is Question Mandatory : No Calculator : None Response Time : N.A Think Time : N.A Minimum Instruction Time : 0

Correct Marks : 5 Wrong Marks : 1

Question Key Details :

Key	Value
Comprehension	MCQ

ব্যাকৰণ শিকাৰ ক্ষেত্ৰত শিক্ষাৰ্থীসকলে সন্মুখীন হোৱা অসুবিধাসমূহ কম কৰিবলৈ ব্যাকৰণৰ কিতাপসমূহ কিধৰণে সালসলনি কৰিব পৰা যায়?

- A. প্ৰসংগ সংগতি বাখি ব্যাকৰণ শিক্ষা দি
- B. ছবি আৰু ব্যাখ্যা চিত্ৰ সংলগ্ন কৰি
- C. অধিক অনুশীলন আৰু উদাহৰণ প্ৰদান কৰি
- D. কেৱল ব্যাকৰণৰ নিয়মসমূহৰ ওপৰত গুৰুত্ব আৰোপ কৰি
- E. বেলেগ বেলেগ ভাষালৈ অনুবাদ কৰি

তলৰ বিকল্পসমূহৰপৰা শুদ্ধ উত্তৰটো বাছি উলিওৱা:

- 1. কেৱল A, B, C
- 2. কেৱল A, D, E
- 3. কেৱল C, D, E
- 4. কেৱল B, C, D

Options :

- 485584146497. 1
- 485584146498. 2
- 485584146499. 3
- 485584146500. 4

Sub-Section Number :

2

Sub-Section Id :

4855842703

Question Shuffling Allowed :

No

Is Section Default? :

null

Question Number : 241 Question Id : 48558436626 Question Type : MCQ Option Shuffling : No Is Question Mandatory :

No Calculator : None Response Time : N.A Think Time : N.A Minimum Instruction Time : 0

Correct Marks : 5 Wrong Marks : 1

Question Key Details :

Key	Value
Comprehension	Comp1

At the upper primary level, the emphasis is on engaging the learner in learning principles of science through familiar experiences, working with hands to design simple technological units and modules and continuing to learn more on environment and health through activities and surveys.

As a science teacher, you will agree that scientific concepts are learnt better if learners explore them through activities and experiments. Learners should be given opportunity to explore science in their everyday experiences. You should engage learners (preferably in groups) in meaningful investigations - particularly of the problems they perceive to be significant and important.

As a science teacher, you should encourage discussions with the teacher and peers. You can ask your learners to gather information from newspapers, knowledgeable persons in the neighborhood, and from easily available sources and discuss about them in class with peers and teachers.

Role play, skits, cooperative learning strategies should be adopted to ensure larger participation and sharing of learning outcomes. It is advised that biographical narratives of scientists and inventors can be used. You should keep in mind that efforts should be continued for development of the process skills of science.

In order to explore the orbits and distribution of electrons in orbits, which could be the most appropriate teaching strategy/method?

1. Lecture
2. Demonstration
3. Brain-storming followed by exercise
4. Numerical Practice

Options :

- 485584146501. 1
- 485584146502. 2
- 485584146503. 3
- 485584146504. 4

Question Number : 241 Question Id : 48558436626 Question Type : MCQ Option Shuffling : No Is Question Mandatory : No Calculator : None Response Time : N.A Think Time : N.A Minimum Instruction Time : 0

Correct Marks : 5 Wrong Marks : 1

Question Key Details :

Key	Value
Comprehension	Comp1

উচ্চ প্ৰাথমিক স্তৰত বিদ্যাৰ্থীৰ সুপৰিচিত অভিজ্ঞতাৰ আধাৰত বিজ্ঞানৰ প্ৰাথমিক কথাসমূহ শিকোৱাত, হাতেৰে কিছুমান কাৰিকৰী একক আৰু মডুলাৰ তৈয়াৰ কৰাত আৰু বিভিন্ন কাৰ্যকলাপ আৰু সমীক্ষাৰ যোগেদি পৰিৱেশ আৰু স্বাস্থ্যৰ বিষয়ে অধিক জ্ঞান আহৰণত গুৰুত্ব প্ৰদান কৰা হয়।

এগৰাকী বিজ্ঞানৰ শিক্ষক হিচাপে আপুনি বুজি পায় যে বিদ্যাৰ্থীসকলে নানা কাৰ্যকলাপ আৰু পৰীক্ষা-নিৰীক্ষাৰ দ্বাৰা বিজ্ঞানৰ ধাৰণাসমূহ ভালদৰে আয়ত্ত কৰিব পাৰে। বিদ্যাৰ্থীসকলক দৈনন্দিন কাম-কাজত বিজ্ঞানৰ অন্বেষণ কৰিবলৈ সুবিধা দিয়া উচিত। আপুনি বিদ্যাৰ্থীসকলক (প্ৰধানতঃ দল হিচাপে) অৰ্থবহু পৰীক্ষা-নিৰীক্ষাৰ কামত – বিশেষকৈ ঘিৰোৰ কথা তেওঁলোকে তাৎপৰ্যপূৰ্ণ আৰু গুৰুত্বপূৰ্ণ বুলি ভাবে সেইবোৰত নিয়োগ কৰা উচিত।

বিজ্ঞানৰ এগৰাকী শিক্ষক হিচাপে আপুনি শিক্ষক আৰু সতীৰ্ঘসকলৰ সৈতে বিদ্যাৰ্থীসকলক আলোচনা কৰিবলৈ উৎসাহ দিয়া উচিত। আপুনি বিদ্যাৰ্থীসকলক বাস্তৱিক কাকত, চুবুৰীৰ কোনো জ্ঞানী লোক আৰু সহজতে উপলভ্য যোৱা উৎসৰপৰা তথ্য সংগ্ৰহ কৰিবলৈ আৰু সেইসমূহৰ বিষয়ে শ্ৰেণীকোঠাত শিক্ষক আৰু সতীৰ্ঘসকলৰ লগত আলোচনা কৰিবলৈ ক'ব পাৰে।

ব্যাপক অংশগ্ৰহণ আৰু শিক্ষণৰ ফলাফলৰ ভাগ-বাটোৱাৰাক নিশ্চিত কৰিবলৈ চৰিত্ৰাভিনয়, চুটি নাটক, সহযোগিতামূলক শিক্ষণ কৌশল আদি পদ্ধতি অবলম্বন কৰিব পাৰে। বিজ্ঞানী আৰু আৱিষ্কাৰকসকলৰ জীৱনীমূলক ৰচনাসমূহ ব্যৱহাৰ কৰিবলৈয়ো পৰামৰ্শ দিয়া হয়। বিজ্ঞানৰ কৌশলৰ ব্যৱহাৰিক প্ৰয়োগৰ বিকাশৰ বাবে নিৰন্তৰ প্ৰচেষ্টা অব্যাহত ৰখাৰ কথাটো আপুনি মনত ৰাখিব লাগিব।

কক্ষপথসমূহ আৰু কক্ষপথসমূহত ইলেকট্ৰনৰ বিতৰণৰ বিষয়ে জানিবলৈ কোনটো আটাইতকৈ উপযুক্ত শিক্ষণ কৌশল/ পদ্ধতি হ'ব?

1. পাঠদান
2. প্ৰদৰ্শন
3. ব্ৰেইন-ষ্ট্ৰ'মিঙৰ (মেগজু মন্ত্ৰনৰ) পিছত অনুশীলন
4. সাংখ্যিক অনুশীলন

Options :

485584146501. 1
485584146502. 2
485584146503. 3
485584146504. 4

Question Number : 242 Question Id : 48558436627 Question Type : MCQ Option Shuffling : No Is Question Mandatory : No Calculator : None Response Time : N.A Think Time : N.A Minimum Instruction Time : 0

Correct Marks : 5 Wrong Marks : 1

Question Key Details :

Key	Value
Comprehension	Comp1

At the upper primary level, the emphasis is on engaging the learner in learning principles of science through familiar experiences, working with hands to design simple technological units and modules and continuing to learn more on environment and health through activities and surveys.

As a science teacher, you will agree that scientific concepts are learnt better if learners explore them through activities and experiments. Learners should be given opportunity to explore science in their everyday experiences. You should engage learners (preferably in groups) in meaningful investigations - particularly of the problems they perceive to be significant and important.

As a science teacher, you should encourage discussions with the teacher and peers. You can ask your learners to gather information from newspapers, knowledgeable persons in the neighborhood, and from easily available sources and discuss about them in class with peers and teachers.

Role play, skits, cooperative learning strategies should be adopted to ensure larger participation and sharing of learning outcomes. It is advised that biographical narratives of scientists and inventors can be used. You should keep in mind that efforts should be continued for development of the process skills of science.

Which would be the most appropriate teaching learning material to explain different types of atomic models?

1. Charts
2. Pictures
3. Video animation
4. Black board

Options :

- 485584146505. 1
- 485584146506. 2
- 485584146507. 3
- 485584146508. 4

Question Number : 242 Question Id : 48558436627 Question Type : MCQ Option Shuffling : No Is Question Mandatory : No Calculator : None Response Time : N.A Think Time : N.A Minimum Instruction Time : 0

Correct Marks : 5 Wrong Marks : 1

Question Key Details :

Key	Value
Comprehension	Comp1

উচ্চ প্ৰাথমিক স্তৰত বিদ্যাৰ্থীৰ সুপৰিচিত অভিজ্ঞতাৰ আধাৰত বিজ্ঞানৰ প্ৰাথমিক কথাসমূহ শিকোৱাত, হাতেৰে কিছুমান কাৰিকৰী একক আৰু মডেল তৈয়াৰ কৰাত আৰু বিভিন্ন কাৰ্যকলাপ আৰু সমীক্ষাৰ যোগেদি পৰিৱেশ আৰু ৰাস্থাৰ বিষয়ে অধিক জ্ঞান আহৰণত গুৰুত্ব প্ৰদান কৰা হয়।

এগৰাকী বিজ্ঞানৰ শিক্ষক হিচাপে আপুনি বুজি পায় যে বিদ্যাৰ্থীসকলে নানা কাৰ্যকলাপ আৰু পৰীক্ষা-নিৰীক্ষাৰ দ্বাৰা বিজ্ঞানৰ ধাৰণাসমূহ ভালদৰে আয়ত্ত কৰিব পাৰে। বিদ্যাৰ্থীসকলক দৈনন্দিন কাম-কাজত বিজ্ঞানৰ অন্বেষণ কৰিবলৈ সুবিধা দিয়া উচিত। আপুনি বিদ্যাৰ্থীসকলক (প্ৰধানতঃ দল হিচাপে) অৰ্থবহু পৰীক্ষা-নিৰীক্ষাৰ কামত – বিশেষকৈ ঘিৰোৰ কথা তেওঁলোকে তাৎপৰ্যপূৰ্ণ আৰু গুৰুত্বপূৰ্ণ বুলি ভাবে সেইবোৰত নিয়োগ কৰা উচিত।

বিজ্ঞানৰ এগৰাকী শিক্ষক হিচাপে আপুনি শিক্ষক আৰু সতীৰ্থসকলৰ সৈতে বিদ্যাৰ্থীসকলক আলোচনা কৰিবলৈ উৎসাহ দিয়া উচিত। আপুনি বিদ্যাৰ্থীসকলক বাস্তৱি কাকত, চুবুৰীৰ কোনো জ্ঞানী লোক আৰু সহজতে উপলভ্য যোৱা উৎসৰপৰা তথ্য সংগ্ৰহ কৰিবলৈ আৰু সেইসমূহৰ বিষয়ে শ্ৰেণীকোঠাত শিক্ষক আৰু সতীৰ্থসকলৰ লগত আলোচনা কৰিবলৈ ক'ব পাৰে।

ব্যাপক অংশগ্ৰহণ আৰু শিক্ষণৰ ফলাফলৰ ভাগ-বাটোৱাৰাক নিশ্চিত কৰিবলৈ চৰিত্ৰাভিনয়, চুটি নাটক, সহযোগিতামূলক শিক্ষণ কৌশল আদি পদ্ধতি অবলম্বন কৰিব পাৰে। বিজ্ঞানী আৰু আৱিষ্কাৰকসকলৰ জীৱনীমূলক ৰচনাসমূহ ব্যৱহাৰ কৰিবলৈয়ো পৰামৰ্শ দিয়া হয়। বিজ্ঞানৰ কৌশলৰ ব্যৱহাৰিক প্ৰয়োগৰ বিকাশৰ বাবে নিৰন্তৰ প্ৰচেষ্টা অব্যাহত ৰখাৰ কথাটো আপুনি মনত ৰাখিব লাগিব।

বিভিন্ন ধৰণৰ এট'মিক মডেল বা পাৰমাণৱিক আৰ্হিৰ ব্যাখ্যা কৰিবলৈ কোনটো আটাইতকৈ উপযুক্ত শিক্ষা-শিক্ষণৰ সঁজুলি হ'ব?

1. ছাৰ্ট বা তালিকা
2. চিত্ৰ
3. ভিডিঅ' এনিমেশ্যন
4. ব্লেক ব'ৰ্ড

Options :

485584146505. 1
485584146506. 2
485584146507. 3
485584146508. 4

Question Number : 243 Question Id : 48558436628 Question Type : MCQ Option Shuffling : No Is Question Mandatory : No Calculator : None Response Time : N.A Think Time : N.A Minimum Instruction Time : 0

Correct Marks : 5 Wrong Marks : 1

Question Key Details :

Key	Value
Comprehension	Comp1

At the upper primary level, the emphasis is on engaging the learner in learning principles of science through familiar experiences, working with hands to design simple technological units and modules and continuing to learn more on environment and health through activities and surveys.

As a science teacher, you will agree that scientific concepts are learnt better if learners explore them through activities and experiments. Learners should be given opportunity to explore science in their everyday experiences. You should engage learners (preferably in groups) in meaningful investigations - particularly of the problems they perceive to be significant and important.

As a science teacher, you should encourage discussions with the teacher and peers. You can ask your learners to gather information from newspapers, knowledgeable persons in the neighborhood, and from easily available sources and discuss about them in class with peers and teachers.

Role play, skits, cooperative learning strategies should be adopted to ensure larger participation and sharing of learning outcomes. It is advised that biographical narratives of scientists and inventors can be used. You should keep in mind that efforts should be continued for development of the process skills of science.

If a teacher is teaching types of sub-atomic particles and their charges, which could be the most appropriate tool for assesment?

1. Unit tests
2. Oral test
3. A field project
4. Crossword puzzle

Options :

- 485584146509. 1
- 485584146510. 2
- 485584146511. 3
- 485584146512. 4

Question Number : 243 Question Id : 48558436628 Question Type : MCQ Option Shuffling : No Is Question Mandatory : No Calculator : None Response Time : N.A Think Time : N.A Minimum Instruction Time : 0

Correct Marks : 5 Wrong Marks : 1

Question Key Details :

Key	Value
Comprehension	Comp1

উচ্চ প্ৰাথমিক স্তৰত বিদ্যাৰ্থীৰ সুপৰিচিত অভিজ্ঞতাৰ আধাৰত বিজ্ঞানৰ প্ৰাথমিক কথাসমূহ শিকোৱাত, হাতেৰে কিছুমান কাৰিকৰী একক আৰু মডেল তৈয়াৰ কৰাত আৰু বিভিন্ন কাৰ্যকলাপ আৰু সমীক্ষাৰ যোগেদি পৰিৱেশ আৰু ৰাস্থাৰ বিষয়ে অধিক জ্ঞান আহৰণত গুৰুত্ব প্ৰদান কৰা হয়।

এগৰাকী বিজ্ঞানৰ শিক্ষক হিচাপে আপুনি বুজি পায় যে বিদ্যাৰ্থীসকলে নানা কাৰ্যকলাপ আৰু পৰীক্ষা-নিৰীক্ষাৰ দ্বাৰা বিজ্ঞানৰ ধাৰণাসমূহ ভালদৰে আয়ত্ত কৰিব পাৰে। বিদ্যাৰ্থীসকলক দৈনন্দিন কাম-কাজত বিজ্ঞানৰ অন্বেষণ কৰিবলৈ সুবিধা দিয়া উচিত। আপুনি বিদ্যাৰ্থীসকলক (প্ৰধানতঃ দল হিচাপে) অৰ্থবহু পৰীক্ষা-নিৰীক্ষাৰ কামত – বিশেষকৈ ঘিৰোৰ কথা তেওঁলোকে তাৎপৰ্যপূৰ্ণ আৰু গুৰুত্বপূৰ্ণ বুলি ভাবে সেইবোৰত নিয়োগ কৰা উচিত।

বিজ্ঞানৰ এগৰাকী শিক্ষক হিচাপে আপুনি শিক্ষক আৰু সতীৰ্থসকলৰ সৈতে বিদ্যাৰ্থীসকলক আলোচনা কৰিবলৈ উৎসাহ দিয়া উচিত। আপুনি বিদ্যাৰ্থীসকলক ৰাস্থাৰ কাৰুণ্য, চুবুৰীৰ কোনো জ্ঞানী লোক আৰু সহজতে উপলভ্য যোৱা উৎসৰপৰা তথ্য সংগ্ৰহ কৰিবলৈ আৰু সেইসমূহৰ বিষয়ে শ্ৰেণীকোঠাত শিক্ষক আৰু সতীৰ্থসকলৰ লগত আলোচনা কৰিবলৈ ক'ব পাৰে।

ব্যাপক অংশগ্ৰহণ আৰু শিক্ষণৰ ফলাফলৰ ভাগ-বাটোৱাৰাক নিশ্চিত কৰিবলৈ চৰিত্ৰাভিনয়, চুটি নাটক, সহযোগিতামূলক শিক্ষণ কৌশল আদি পদ্ধতি অবলম্বন কৰিব পাৰে। বিজ্ঞানী আৰু আৱিষ্কাৰকসকলৰ জীৱনীমূলক ৰচনাসমূহ ব্যৱহাৰ কৰিবলৈয়ো পৰামৰ্শ দিয়া হয়। বিজ্ঞানৰ কৌশলৰ ব্যৱহাৰিক প্ৰয়োগৰ বিকাশৰ বাবে নিৰন্তৰ প্ৰচেষ্টা অব্যাহত ৰখাৰ কথাটো আপুনি মনত ৰাখিব লাগিব।

যদি এগৰাকী শিক্ষকে অৱপাৰমাণৱিক (ছাব-এটমিক) কণিকাৰ প্ৰকাৰ আৰু সিহঁতৰ আধানৰ বিষয়ে শিকাই আছে তেন্তে তলৰ বিকল্পসমূহৰ কোনটো পদ্ধতি এই শিক্ষণৰ মূল্যায়নৰ বাবে আটাইতকৈ উপযুক্ত হ'ব?

1. ইউনিট (গোট) পৰীক্ষা
2. মৌখিক পৰীক্ষা
3. এটা ক্ষেত্ৰ প্ৰকল্প
4. এটা শব্দশৃংখল

Options :

485584146509. 1
485584146510. 2
485584146511. 3
485584146512. 4

Question Number : 244 Question Id : 48558436629 Question Type : MCQ Option Shuffling : No Is Question Mandatory : No Calculator : None Response Time : N.A Think Time : N.A Minimum Instruction Time : 0

Correct Marks : 5 Wrong Marks : 1

Question Key Details :

Key	Value
Comprehension	Comp1

At the upper primary level, the emphasis is on engaging the learner in learning principles of science through familiar experiences, working with hands to design simple technological units and modules and continuing to learn more on environment and health through activities and surveys.

As a science teacher, you will agree that scientific concepts are learnt better if learners explore them through activities and experiments. Learners should be given opportunity to explore science in their everyday experiences. You should engage learners (preferably in groups) in meaningful investigations - particularly of the problems they perceive to be significant and important.

As a science teacher, you should encourage discussions with the teacher and peers. You can ask your learners to gather information from newspapers, knowledgeable persons in the neighborhood, and from easily available sources and discuss about them in class with peers and teachers.

Role play, skits, cooperative learning strategies should be adopted to ensure larger participation and sharing of learning outcomes. It is advised that biographical narratives of scientists and inventors can be used. You should keep in mind that efforts should be continued for development of the process skills of science.

Which among the following objectives belongs to 'creating' cognitive process domain?

1. making a simple torch
2. explaining how a bulb glows
3. selecting suitable cell for torch
4. Indicating direction of flow of currents

Options :

- 485584146513. 1
- 485584146514. 2
- 485584146515. 3
- 485584146516. 4

Question Number : 244 Question Id : 48558436629 Question Type : MCQ Option Shuffling : No Is Question Mandatory : No Calculator : None Response Time : N.A Think Time : N.A Minimum Instruction Time : 0

Correct Marks : 5 Wrong Marks : 1

Question Key Details :

Key	Value
Comprehension	Comp1

উচ্চ প্ৰাথমিক স্তৰত বিদ্যাৰ্থীৰ সুপৰিচিত অভিজ্ঞতাৰ আধাৰত বিজ্ঞানৰ প্ৰাথমিক কথাসমূহ শিকোৱাত, হাতেৰে কিছুমান কাৰিকৰী একক আৰু মডেল তৈয়াৰ কৰাত আৰু বিভিন্ন কাৰ্যকলাপ আৰু সমীক্ষাৰ যোগেদি পৰিৱেশ আৰু ৰাস্থাৰ বিষয়ে অধিক জ্ঞান আহৰণত গুৰুত্ব প্ৰদান কৰা হয়।

এগৰাকী বিজ্ঞানৰ শিক্ষক হিচাপে আপুনি বুজি পায় যে বিদ্যাৰ্থীসকলে নানা কাৰ্যকলাপ আৰু পৰীক্ষা-নিৰীক্ষাৰ দ্বাৰা বিজ্ঞানৰ ধাৰণাসমূহ ভালদৰে আয়ত্ত কৰিব পাৰে। বিদ্যাৰ্থীসকলক দৈনন্দিন কাম-কাজত বিজ্ঞানৰ অন্বেষণ কৰিবলৈ সুবিধা দিয়া উচিত। আপুনি বিদ্যাৰ্থীসকলক (প্ৰধানতঃ দল হিচাপে) অৰ্থবহু পৰীক্ষা-নিৰীক্ষাৰ কামত – বিশেষকৈ যিবোৰ কথা তেওঁলোকে তাৎপৰ্যপূৰ্ণ আৰু গুৰুত্বপূৰ্ণ বুলি ভাবে সেইবোৰত নিয়োগ কৰা উচিত।

বিজ্ঞানৰ এগৰাকী শিক্ষক হিচাপে আপুনি শিক্ষক আৰু সতীৰ্ঘসকলৰ সৈতে বিদ্যাৰ্থীসকলক আলোচনা কৰিবলৈ উৎসাহ দিয়া উচিত। আপুনি বিদ্যাৰ্থীসকলক বাস্তৱি কাকত, চুবুৰীৰ কোনো জ্ঞানী লোক আৰু সহজতে উপলভ্য যোৱা উৎসৰপৰা তথ্য সংগ্ৰহ কৰিবলৈ আৰু সেইসমূহৰ বিষয়ে শ্ৰেণীকোঠাত শিক্ষক আৰু সতীৰ্ঘসকলৰ লগত আলোচনা কৰিবলৈ ক'ব পাৰে।

ব্যাপক অংশগ্ৰহণ আৰু শিক্ষণৰ ফলাফলৰ ভাগ-বাটোৱাৰাক নিশ্চিত কৰিবলৈ চৰিত্ৰাভিনয়, চুটি নাটক, সহযোগিতামূলক শিক্ষণ কৌশল আদি পদ্ধতি অবলম্বন কৰিব পাৰে। বিজ্ঞানী আৰু আৱিষ্কাৰকসকলৰ জীৱনীমূলক ৰচনাসমূহ ব্যৱহাৰ কৰিবলৈয়ো পৰামৰ্শ দিয়া হয়। বিজ্ঞানৰ কৌশলৰ ব্যৱহাৰিক প্ৰয়োগৰ বিকাশৰ বাবে নিৰন্তৰ প্ৰচেষ্টা অব্যাহত ৰখাৰ কথাটো আপুনি মনত ৰাখিব লাগিব।

তলত দিয়া বিকল্পসমূহৰ কোনটো কাৰ্য্যই সজ্ঞানতাবোধ সৃষ্টি কৰিব?

1. এটা সাধাৰণ টৰ্চলাইট সজা
2. এটা বাস্তৱে কিদৰে পোহৰ দিয়ে তাৰ ব্যাখ্যা কৰা
3. টৰ্চলাইটৰ বাবে উপযুক্ত বেটাৰীৰ চয়ন
4. বিজুলীৰ প্ৰবাহৰ দিশ নিৰ্দেশন কৰা

Options :

485584146513. 1
485584146514. 2
485584146515. 3
485584146516. 4

Question Number : 245 Question Id : 48558436630 Question Type : MCQ Option Shuffling : No Is Question Mandatory : No Calculator : None Response Time : N.A Think Time : N.A Minimum Instruction Time : 0

Correct Marks : 5 Wrong Marks : 1

Question Key Details :

Key	Value
Comprehension	Comp1

At the upper primary level, the emphasis is on engaging the learner in learning principles of science through familiar experiences, working with hands to design simple technological units and modules and continuing to learn more on environment and health through activities and surveys.

As a science teacher, you will agree that scientific concepts are learnt better if learners explore them through activities and experiments. Learners should be given opportunity to explore science in their everyday experiences. You should engage learners (preferably in groups) in meaningful investigations - particularly of the problems they perceive to be significant and important.

As a science teacher, you should encourage discussions with the teacher and peers. You can ask your learners to gather information from newspapers, knowledgeable persons in the neighborhood, and from easily available sources and discuss about them in class with peers and teachers.

Role play, skits, cooperative learning strategies should be adopted to ensure larger participation and sharing of learning outcomes. It is advised that biographical narratives of scientists and inventors can be used. You should keep in mind that efforts should be continued for development of the process skills of science.

Which among the following is a teacher-centered objective?

1. Children identify different types of nutrition in plants.
2. Children explain various methods of getting nutrition in plants.
3. Teachers show images of autotrophic and heterotrophic nutrition
4. Teachers explain the definition of nutrition and make students memorize it.

Options :

- 485584146517. 1
- 485584146518. 2
- 485584146519. 3
- 485584146520. 4

Question Number : 245 Question Id : 48558436630 Question Type : MCQ Option Shuffling : No Is Question Mandatory : No Calculator : None Response Time : N.A Think Time : N.A Minimum Instruction Time : 0

Correct Marks : 5 Wrong Marks : 1

Question Key Details :

Key	Value
Comprehension	Comp1

উচ্চ প্ৰাথমিক স্তৰত বিদ্যাৰ্থীৰ সুপৰিচিত অভিজ্ঞতাৰ আধাৰত বিজ্ঞানৰ প্ৰাথমিক কথাসমূহ শিকোৱাত, হাতেৰে কিছুমান কাৰিকৰী একক আৰু মডেল তৈয়াৰ কৰাত আৰু বিভিন্ন কাৰ্যকলাপ আৰু সমীক্ষাৰ যোগেদি পৰিৱেশ আৰু ৰাস্থাৰ বিষয়ে অধিক জ্ঞান আহৰণত গুৰুত্ব প্ৰদান কৰা হয়।

এগৰাকী বিজ্ঞানৰ শিক্ষক হিচাপে আপুনি বুজি পায় যে বিদ্যাৰ্থীসকলে নানা কাৰ্যকলাপ আৰু পৰীক্ষা-নিৰীক্ষাৰ দ্বাৰা বিজ্ঞানৰ ব্যৱহাৰসমূহ ভালদৰে আয়ত্ত কৰিব পাৰে। বিদ্যাৰ্থীসকলক দৈনন্দিন কাম-কাজত বিজ্ঞানৰ অন্বেষণ কৰিবলৈ সুবিধা দিয়া উচিত। আপুনি বিদ্যাৰ্থীসকলক (প্ৰধানতঃ দল হিচাপে) অৰ্থৰহ পৰীক্ষা-নিৰীক্ষাৰ কামত – বিশেষকৈ যিবোৰ কথা তেওঁলোকে তাৎপৰ্যপূৰ্ণ আৰু গুৰুত্বপূৰ্ণ বুলি ভাবে সেইবোৰত নিয়োগ কৰা উচিত।

বিজ্ঞানৰ এগৰাকী শিক্ষক হিচাপে আপুনি শিক্ষক আৰু সতীৰ্ঘসকলৰ সৈতে বিদ্যাৰ্থীসকলক আলোচনা কৰিবলৈ উৎসাহ দিয়া উচিত। আপুনি বিদ্যাৰ্থীসকলক বাস্তৱি কাকত, চুবুৰীৰ কোনো জ্ঞানী লোক আৰু সহজতে উপলভ্য যোৱা উৎসৰপৰা তথ্য সংগ্ৰহ কৰিবলৈ আৰু সেইসমূহৰ বিষয়ে শ্ৰেণীকোঠাত শিক্ষক আৰু সতীৰ্ঘসকলৰ লগত আলোচনা কৰিবলৈ ক'ব পাৰে।

ব্যাপক অংশগ্ৰহণ আৰু শিক্ষণৰ ফলাফলৰ ভাগ-বাটোৱাৰক নিশ্চিত কৰিবলৈ চৰিত্ৰাভিনয়, চুটি নাটক, সংযোগিতামূলক শিক্ষণ কৌশল আদি পদ্ধতি অবলম্বন কৰিব পাৰে। বিজ্ঞানী আৰু আৱিষ্কাৰকসকলৰ জীৱনীমূলক ৰচনাসমূহ ব্যৱহাৰ কৰিবলৈয়ো পৰামৰ্শ দিয়া হয়। বিজ্ঞানৰ কৌশলৰ ব্যৱহাৰিক প্ৰয়োগৰ বিকাশৰ বাবে নিৰন্তৰ প্ৰচেষ্টা অব্যাহত ৰখাৰ কথাটো আপুনি মনত ৰাখিব লাগিব।

তলৰ কোনটো কাৰ্য্য শিক্ষক কেন্দ্ৰিক?

1. বিদ্যাৰ্থীয়ে উদ্ভিদৰ বিভিন্ন প্ৰকাৰৰ পোষণ চিহ্নিত কৰা
2. বিদ্যাৰ্থীয়ে বিভিন্ন পদ্ধতিৰ জড়িয়তে উদ্ভিদে পোষণ লাভৰ বিষয়ে ব্যাখ্যা কৰা
3. শিক্ষকে স্বপোষীয় আৰু পৰপোষীয় পোষণৰ চিত্ৰ দেখুওৱা
4. শিক্ষকে পোষণৰ সূত্ৰ ব্যাখ্যা কৰা আৰু বিদ্যাৰ্থীক সেয়া মনত ৰখোৱা

Options :

485584146517. 1

485584146518. 2

485584146519. 3

485584146520. 4

Sub-Section Number :

3

Sub-Section Id :

4855842704

Question Shuffling Allowed :

No

Is Section Default? :

null

Question Number : 246 Question Id : 48558436631 Question Type : MCQ Option Shuffling : No Is Question Mandatory :

No Calculator : None Response Time : N.A Think Time : N.A Minimum Instruction Time : 0

Correct Marks : 5 Wrong Marks : 1

Question Key Details :

Key	Value
Comprehension	Comp2

The spider's web occupies a much larger space than does the animal itself. The web represents the spider's field of action in acting as a trap for insects. It is constructed according to a plan. A thread secreted by the spider joins two branches, two rocks, two supports of any kind; then he weaves the rays. The construction proceeds according to a plan. Finally the spider weaves the thread around the center, going around at an always very carefully calculated distance. If the points of support are close together, the web is small. The greater the distance of one from the other, the larger the web will be. But it will always be woven with the same exactness according to a precise plan.

As is the web, so is the mind of the child constructed according to an exact plan. The abstract construction enables him to grasp what happens in his field, which was out of his range heretofore.

Depending on whether the child lives in a simple civilisation or in a complicated world, his web will be more or less large and will enable him to attain more or fewer objectives.

This is why we must respect the interior construction and its manifestations, which may at times seem useless to us. The construction is necessary. It is thanks to this work that the child enlarges his psychic field and subsequently his receptive powers.

To consider the school as the place where instruction is given is one point of view. But to consider the school as a preparation for life is another. In the latter case the school must satisfy all the needs of life.

An education that suppresses the true nature of the child is an education that leads to the development of anomalies.

Scouting, which, outside of school, has brought an organised form of life to children, has therefore always interested us.

According to the passage, what is the significance of a spider's web to a child's education?

1. Education must be spread out in all domains.
2. Field-based learning is a crucial aspect of education.
3. The administrative web poses an impediment to education.
4. A child's mind is also constructed like a web.

Options :

- 485584146521. 1
- 485584146522. 2
- 485584146523. 3
- 485584146524. 4

Question Number : 246 Question Id : 48558436631 Question Type : MCQ Option Shuffling : No Is Question Mandatory : No Calculator : None Response Time : N.A Think Time : N.A Minimum Instruction Time : 0

Correct Marks : 5 Wrong Marks : 1

Question Key Details :

Key	Value
Comprehension	Comp2

এখন মকৰাজালে মকৰাটোৰ নিজৰ আকাৰতকৈয়ো বহু বেছি ঠাই দখল কৰি থাকে। মকৰাজালখনে কীট-পতংগ ধৰিবলৈ মকৰাটোৰ কাৰ্যক্ষমতাৰ প্ৰতিনিধিত্ব কৰে। এটা পৰিকল্পনাৰ আধাৰত ইয়াক সাজি উলিওৱা হয়। মকৰাটোৱে নিষ্কাষিত কৰা সূতাই দুটা ডাল, দুটা শিল, দুটা যিকোনো ধৰণৰ অৱলম্বনক সংযোগ কৰে তাৰপাছত সি জালখন গাঁঠিবলৈ আৰম্ভ কৰে। এই নিৰ্মাণকাৰ্যটো পৰিকল্পিতভাৱে আগবাঢ়ে। অৱশেষত মকৰাটোৱে সূতাৰে কেন্দ্ৰৰ চাৰিওফালে জালখন গাঁঠিবলৈ আৰম্ভ কৰে আৰু সাৱধানতাৰে চাৰিওফালৰ এক নিৰ্দিষ্ট দূৰত্বলৈ গাঁঠি নিয়ে। যদিহে অৱলম্বনবিশ্বু দুটা ওচৰা-ওচৰিকৈ থাকে, জালখন সৰু হয়। আকৌ অৱলম্বনবিশ্বু দুটাৰ দূৰত্ব যিমানে বেছি হয় জালখনো সিমানে ডাঙৰ হয়। কিন্তু ইয়াক সদায় একেধৰণৰ পৰিকল্পিত নিৰ্ভুলতাৰে গাঁঠি উলিওৱা হয়।

শিশুৰ মনো মকৰাজালখনৰ দৰে নিৰ্ভুল পৰিকল্পনা মৰ্মে নিৰ্মিত হয়। মনৰ বিমূৰ্ত নিৰ্মাণে তাৰ চাৰিওফালে কি ঘটি আছে বুজি পাবলৈ তাক সহায় কৰে, যিটো আগতে তাৰ বোৰৰ পৰিসৰৰ বাহিৰত আছিল।

শিশুটোৱে কোনো সৰল সমাজত নে জটিল জগতত বসবাস কৰি আছে তাৰ ওপৰত নিৰ্ভৰ কৰি তাৰ মনোজালখনৰ পৰিসৰ ডাঙৰ বা সৰু হ'ব আৰু কম বা বেছি লক্ষ্যত উপনীত হ'বলৈ সহায় কৰিব।

এইকাৰণে আমি আন্তঃস্থৰীণ গঠন আৰু ইয়াৰ অভিব্যক্তিৰ গুৰুত্ব প্ৰদান কৰা উচিত, যাক সাধাৰণতে আমাৰ বাবে অদৰকাৰী যেন বোধ হয়। মনোগঠন অত্যাবশ্যকীয়। ইয়াৰ জড়িততে শিশুৱে নিজৰ মানসিক ক্ষেত্ৰখনত বিস্মৃতি লাভ কৰে আৰু তাৰ লগে লগে তাৰ শক্তিসমূহৰো উন্মাদ পায়।

বিদ্যালয়, য'ত কেৱল নিৰ্দেশ দিয়া হয়, বুলি ভবাটো কেৱল এটা ধাৰণাহে। কিন্তু বিদ্যালয়খনক জীৱন গঢ়নৰ প্ৰক্ৰতিৰ স্থান বুলি ভবাটো অন্য এক ধাৰণা। পাছৰ ধাৰণাটো মতে বিদ্যালয়খনে জীৱনৰ সকলো প্ৰয়োজন পূৰণৰ সজ্জা প্ৰদান কৰিব লাগিব। শিশুৰ প্ৰকৃতিক অৱদমিত কৰি বহা শিক্ষাই শিশুক বিকৃতিৰ বিকাশৰ পথে লৈ যায়।

বিদ্যালয়ৰ বাহিৰত স্ক্ৰাউটিঙে শিশুৰ জীৱন পৰিশীলিত কৰে আৰু সেইবাবে ই সদায় আমাক প্ৰভাৱিত কৰে।

উক্ত দফাটোৰ মতে শিশুৰ শিক্ষাত মকৰাজালৰ প্ৰাসংগিকতা কি?

1. সকলো ক্ষেত্ৰতে শিক্ষাৰ প্ৰসাৰ হ'ব লাগে।
2. ক্ষেত্ৰভিত্তিক শিক্ষণ শিক্ষাৰ বাবে এক মহত্বপূৰ্ণ উপাদান।
3. প্ৰশাসনীয় মেৰপেচে শিক্ষাত বাধাৰ সৃষ্টি কৰে।
4. শিশুৰ মনটোও একোখন মকৰাজালৰ দৰে গঠিত হয়।

Options :

485584146521. 1
485584146522. 2
485584146523. 3
485584146524. 4

Question Number : 247 Question Id : 48558436632 Question Type : MCQ Option Shuffling : No Is Question Mandatory : No Calculator : None Response Time : N.A Think Time : N.A Minimum Instruction Time : 0

Correct Marks : 5 Wrong Marks : 1

Question Key Details :

Key	Value
Comprehension	Comp2

The spider's web occupies a much larger space than does the animal itself. The web represents the spider's field of action in acting as a trap for insects. It is constructed according to a plan. A thread secreted by the spider joins two branches, two rocks, two supports of any kind; then he weaves the rays. The construction proceeds according to a plan. Finally the spider weaves the thread around the center, going around at an always very carefully calculated distance. If the points of support are close together, the web is small. The greater the distance of one from the other, the larger the web will be. But it will always be woven with the same exactness according to a precise plan.

As is the web, so is the mind of the child constructed according to an exact plan. The abstract construction enables him to grasp what happens in his field, which was out of his range heretofore.

Depending on whether the child lives in a simple civilisation or in a complicated world, his web will be more or less large and will enable him to attain more or fewer objectives.

This is why we must respect the interior construction and its manifestations, which may at times seem useless to us. The construction is necessary. It is thanks to this work that the child enlarges his psychic field and subsequently his receptive powers.

To consider the school as the place where instruction is given is one point of view. But to consider the school as a preparation for life is another. In the latter case the school must satisfy all the needs of life.

An education that suppresses the true nature of the child is an education that leads to the development of anomalies.

Scouting, which, outside of school, has brought an organised form of life to children, has therefore always interested us.

Construction of child's mind is:

1. Independent of his context
2. dependent on school's context only
3. dependent on his context
4. dependent on his family's context only

Options :

- 485584146525. 1
- 485584146526. 2
- 485584146527. 3
- 485584146528. 4

Question Number : 247 Question Id : 48558436632 Question Type : MCQ Option Shuffling : No Is Question Mandatory : No Calculator : None Response Time : N.A Think Time : N.A Minimum Instruction Time : 0

Correct Marks : 5 Wrong Marks : 1

Question Key Details :

Key	Value
Comprehension	Comp2

এখন মকৰাজালে মকৰাটোৰ নিজৰ আকাৰতকৈয়ো বহু বেছি ঠাই দখল কৰি থাকে। মকৰাজালখনে কীট-পতংগ ধৰিবলৈ মকৰাটোৰ কাৰ্যক্ষমতাৰ প্ৰতিনিধিত্ব কৰে। এটা পৰিকল্পনাৰ আধাৰত ইয়াক সাজি উলিওৱা হয়। মকৰাটোৱে নিষ্কাষিত কৰা সূতাই দুটা ডাল, দুটা শিল, দুটা যিকোনো ধৰণৰ অৱলম্বনক সংযোগ কৰে তাৰপাছত সি জালখন গাঁঠিবলৈ আৰম্ভ কৰে। এই নিৰ্মাণকাৰ্যটো পৰিকল্পিতভাৱে আগবাঢ়ে। অৱশেষত মকৰাটোৱে সূতাৰে কেন্দ্ৰৰ চাৰিওফালে জালখন গাঁঠিবলৈ আৰম্ভ কৰে আৰু সাৱধানতাৰে চাৰিওফালৰ এক নিৰ্দিষ্ট দূৰত্বলৈ গাঁঠি নিয়ে। যদিহে অৱলম্বনৰ বিশু দুটা ওচৰা-ওচৰিকৈ থাকে, জালখন সৰু হয়। আকৌ অৱলম্বনৰ বিশু দুটাৰ দূৰত্ব যিমানে বেছি হয় জালখনো সিমানে ডাঙৰ হয়। কিন্তু ইয়াক সদায় একেধৰণৰ পৰিকল্পিত নিৰ্ভুলতাৰে গাঁঠি উলিওৱা হয়।

শিশুৰ মনো মকৰাজালখনৰ দৰে নিৰ্ভুল পৰিকল্পনা মৰ্মে নিৰ্মিত হয়। মনৰ বিমূৰ্ত নিৰ্মাণে তাৰ চাৰিওফালে কি ঘটি আছে বুজি পাবলৈ তাক সহায় কৰে, যিটো আগতে তাৰ বোৰৰ পৰিসৰৰ বাহিৰত আছিল।

শিশুটোৱে কোনো সৰল সমাজত নে জটিল জগতত বসবাস কৰি আছে তাৰ ওপৰত নিৰ্ভৰ কৰি তাৰ মনোজালখনৰ পৰিসৰ ডাঙৰ বা সৰু হ'ব আৰু কম বা বেছি লক্ষ্যত উপনীত হ'বলৈ সহায় কৰিব।

এইকাৰণে আমি আন্তঃস্থৰীণ গঠন আৰু ইয়াৰ অভিব্যক্তিৰ গুৰুত্ব প্ৰদান কৰা উচিত, যাক সাধাৰণতে আমাৰ বাবে অদৰকাৰী যেন বোধ হয়। মনোগঠন অত্যাবশ্যকীয়। ইয়াৰ জড়িততে শিশুৱে নিজৰ মানসিক ক্ষেত্ৰখনত বিস্মৃতি লাভ কৰে আৰু তাৰ লগে লগে তাৰ শক্তিসমূহৰো উন্মাদ পায়।

বিদ্যালয়, য'ত কেৱল নিৰ্দেশ দিয়া হয়, বুলি ভবাটো কেৱল এটা ধাৰণাহে। কিন্তু বিদ্যালয়খনক জীৱন গঢ়নৰ প্ৰক্ৰতিৰ স্থান বুলি ভবাটো অন্য এক ধাৰণা। পাছৰ ধাৰণাটো মতে বিদ্যালয়খনে জীৱনৰ সকলো প্ৰয়োজন পূৰণৰ সজ্জা প্ৰদান কৰিব লাগিব। শিশুৰ প্ৰকৃতিক অৱদমিত কৰি বহা শিক্ষাই শিশুক বিকৃতিৰ বিকাশৰ পথে লৈ যায়।

বিদ্যালয়ৰ বাহিৰত স্ক্ৰাটটিঙে শিশুৰ জীৱন পৰিশীলিত কৰে আৰু সেইবাবে ই সদায় আমাক প্ৰভাৱিত কৰে।

শিশুৰ মনৰ গঠন :

1. তাৰ নিজা প্ৰেক্ষাপটৰপৰা স্বতন্ত্ৰ
2. কেৱল বিদ্যালয়ৰ প্ৰেক্ষাপটৰ ওপৰতহে নিৰ্ভৰশীল
3. তাৰ নিজা প্ৰেক্ষাপটৰ ওপৰত নিৰ্ভৰশীল
4. কেৱল তাৰ পৰিয়ালৰ প্ৰেক্ষাপটৰ ওপৰতহে নিৰ্ভৰশীল

Options :

485584146525. 1
485584146526. 2
485584146527. 3
485584146528. 4

Question Number : 248 Question Id : 48558436633 Question Type : MCQ Option Shuffling : No Is Question Mandatory : No Calculator : None Response Time : N.A Think Time : N.A Minimum Instruction Time : 0

Correct Marks : 5 Wrong Marks : 1

Question Key Details :

Key	Value
Comprehension	Comp2

The spider's web occupies a much larger space than does the animal itself. The web represents the spider's field of action in acting as a trap for insects. It is constructed according to a plan. A thread secreted by the spider joins two branches, two rocks, two supports of any kind; then he weaves the rays. The construction proceeds according to a plan. Finally the spider weaves the thread around the center, going around at an always very carefully calculated distance. If the points of support are close together, the web is small. The greater the distance of one from the other, the larger the web will be. But it will always be woven with the same exactness according to a precise plan.

As is the web, so is the mind of the child constructed according to an exact plan. The abstract construction enables him to grasp what happens in his field, which was out of his range heretofore.

Depending on whether the child lives in a simple civilisation or in a complicated world, his web will be more or less large and will enable him to attain more or fewer objectives.

This is why we must respect the interior construction and its manifestations, which may at times seem useless to us. The construction is necessary. It is thanks to this work that the child enlarges his psychic field and subsequently his receptive powers.

To consider the school as the place where instruction is given is one point of view. But to consider the school as a preparation for life is another. In the latter case the school must satisfy all the needs of life.

An education that suppresses the true nature of the child is an education that leads to the development of anomalies.

Scouting, which, outside of school, has brought an organised form of life to children, has therefore always interested us.

According to the passage, what should be the aim of education?

1. Nurture the true nature of a child.
2. Overpower the interior construction of a child's mind.
3. Restrict a child's psychic field and promote scientific temperament.
4. Provide instruction and enable the child's participation in the economy.

Options :

- 485584146529. 1
- 485584146530. 2
- 485584146531. 3
- 485584146532. 4

Question Number : 248 Question Id : 48558436633 Question Type : MCQ Option Shuffling : No Is Question Mandatory : No Calculator : None Response Time : N.A Think Time : N.A Minimum Instruction Time : 0

Correct Marks : 5 Wrong Marks : 1

Question Key Details :

Key	Value
Comprehension	Comp2

এখন মকৰাজালে মকৰাটোৰ নিজৰ আকাৰতকৈয়ো বহু বেছি ঠাই দখল কৰি থাকে। মকৰাজালখনে কীট-পতংগ ধৰিবলৈ মকৰাটোৰ কাৰ্যক্ষমতাৰ প্ৰতিনিধিত্ব কৰে। এটা পৰিকল্পনাৰ আধাৰত ইয়াক সাজি উলিওৱা হয়। মকৰাটোৱে নিৰ্দ্ধাৰিত কৰা সূতাই দুটা ডাল, দুটা শিল, দুটা যিকোনো ধৰণৰ অৱলম্বনক সংযোগ কৰে তাৰপাছত সি জালখন গাঁঠিবলৈ আৰম্ভ কৰে। এই নিৰ্মাণকাৰ্যটো পৰিকল্পিতভাৱে আগবাঢ়ে। অৱশেষত মকৰাটোৱে সূতাবে কেন্দ্ৰৰ চাৰিওফালে জালখন গাঁঠিবলৈ আৰম্ভ কৰে আৰু সাৱধানতাৰে চাৰিওফালৰ এক নিৰ্দিষ্ট দূৰত্বলৈ গাঁঠি নিয়ে। যদিহে অৱলম্বনৰ বিশু দুটা ওচৰা-ওচৰিকৈ থাকে, জালখন সৰু হয়। আকৌ অৱলম্বনৰ বিশু দুটাৰ দূৰত্ব যিমানে বেছি হয় জালখনো সিমানে ডাঙৰ হয়। কিন্তু ইয়াক সদায় একেধৰণৰ পৰিকল্পিত নিৰ্ভুলতাৰে গাঁঠি উলিওৱা হয়।

শিশুৰ মনো মকৰাজালখনৰ দৰে নিৰ্ভুল পৰিকল্পনা মৰ্মে নিৰ্মিত হয়। মনৰ বিমূৰ্ত নিৰ্মাণে তাৰ চাৰিওফালে কি ঘটি আছে বুজি পাবলৈ তাক সহায় কৰে, যিটো আগতে তাৰ বোৰৰ পৰিসৰৰ বাহিৰত আছিল।

শিশুটোৱে কোনো সৰল সমাজত নে জটিল জগতত বসবাস কৰি আছে তাৰ ওপৰত নিৰ্ভৰ কৰি তাৰ মনোজালখনৰ পৰিসৰ ডাঙৰ বা সৰু হ'ব আৰু কম বা বেছি লক্ষ্যত উপনীত হ'বলৈ সহায় কৰিব।

এইকাৰণে আমি আন্তঃস্বৰীণ গঠন আৰু ইয়াৰ অভিব্যক্তিৰ গুৰুত্ব প্ৰদান কৰা উচিত, যাক সাধাৰণতে আমাৰ বাবে অদৰকাৰী যেন বোধ হয়। মনোগঠন অত্যাবশ্যকীয়। ইয়াৰ জড়িততে শিশুৱে নিজৰ মানসিক ক্ষেত্ৰখনত বিস্মৃতি লাভ কৰে আৰু তাৰ লগে লগে তাৰ শক্তিসমূহৰো উন্মাদ পায়।

বিদ্যালয়, য'ত কেৱল নিৰ্দেশ দিয়া হয়, বুলি ভবাটো কেৱল এটা ধাৰণাহে। কিন্তু বিদ্যালয়খনক জীৱন গঢ়নৰ প্ৰক্ৰতিৰ স্থান বুলি ভবাটো অন্য এক ধাৰণা। পাছৰ ধাৰণাটো মতে বিদ্যালয়খনে জীৱনৰ সকলো প্ৰয়োজন পূৰণৰ সজ্জা প্ৰদান কৰিব লাগিব। শিশুৰ প্ৰকৃতিক অৱদমিত কৰি বহা শিক্ষাই শিশুক বিকৃতিৰ বিকাশৰ পথে লৈ যায়।

বিদ্যালয়ৰ বাহিৰত স্ক্ৰাটটিঙে শিশুৰ জীৱন পৰিশীলিত কৰে আৰু সেইবাবে ই সদায় আমাক প্ৰভাৱিত কৰে।

উক্ত দফাটো অনুসৰি শিক্ষাৰ লক্ষ্য কি হোৱা উচিত?

1. শিশুৰ প্ৰকৃত প্ৰকৃতিক প্ৰতিপালন কৰা।
2. শিশুৰ মনৰ আন্তঃস্বৰীণ গঠনক অৱদমন কৰা।
3. শিশুৰ মানসিক ক্ষেত্ৰখনক সীমিত কৰা আৰু বৈজ্ঞানিক মানসিকতাক উদগনি দিয়া।
4. নিৰ্দেশৰ যোগান ধৰা আৰু অৰ্থ ব্যৱস্থাত শিশুৰ যোগদানত সহায় কৰা।

Options :

485584146529. 1
485584146530. 2
485584146531. 3
485584146532. 4

Question Number : 249 Question Id : 48558436634 Question Type : MCQ Option Shuffling : No Is Question Mandatory : No Calculator : None Response Time : N.A Think Time : N.A Minimum Instruction Time : 0

Correct Marks : 5 Wrong Marks : 1

Question Key Details :

Key	Value
Comprehension	Comp2

The spider's web occupies a much larger space than does the animal itself. The web represents the spider's field of action in acting as a trap for insects. It is constructed according to a plan. A thread secreted by the spider joins two branches, two rocks, two supports of any kind; then he weaves the rays. The construction proceeds according to a plan. Finally the spider weaves the thread around the center, going around at an always very carefully calculated distance. If the points of support are close together, the web is small. The greater the distance of one from the other, the larger the web will be. But it will always be woven with the same exactness according to a precise plan.

As is the web, so is the mind of the child constructed according to an exact plan. The abstract construction enables him to grasp what happens in his field, which was out of his range heretofore.

Depending on whether the child lives in a simple civilisation or in a complicated world, his web will be more or less large and will enable him to attain more or fewer objectives.

This is why we must respect the interior construction and its manifestations, which may at times seem useless to us. The construction is necessary. It is thanks to this work that the child enlarges his psychic field and subsequently his receptive powers.

To consider the school as the place where instruction is given is one point of view. But to consider the school as a preparation for life is another. In the latter case the school must satisfy all the needs of life.

An education that suppresses the true nature of the child is an education that leads to the development of anomalies.

Scouting, which, outside of school, has brought an organised form of life to children, has therefore always interested us.

In the author's view, what does a limited perspective of education do to a child?

1. Enables him to grasp concepts easily.
2. Helps him to attain more objectives.
3. Suppresses his true nature.
4. Encourages his thinking abilities.

Options :

- 485584146533. 1
- 485584146534. 2
- 485584146535. 3
- 485584146536. 4

Question Number : 249 Question Id : 48558436634 Question Type : MCQ Option Shuffling : No Is Question Mandatory : No Calculator : None Response Time : N.A Think Time : N.A Minimum Instruction Time : 0

Correct Marks : 5 Wrong Marks : 1

Question Key Details :

Key	Value
Comprehension	Comp2

এখন মকৰাজালে মকৰাটোৰ নিজৰ আকাৰতকৈয়ো বহু বেছি ঠাই দখল কৰি থাকে। মকৰাজালখনে কীট-পতংগ ধৰিবলৈ মকৰাটোৰ কাৰ্যক্ষমতাৰ প্ৰতিনিধিত্ব কৰে। এটা পৰিকল্পনাৰ আধাৰত ইয়াক সাজি উলিওৱা হয়। মকৰাটোৱে নিষ্কাষিত কৰা সূতাই দুটা ডাল, দুটা শিল, দুটা যিকোনো ধৰণৰ অৱলম্বনক সংযোগ কৰে তাৰপাছত সি জালখন গাঁঠিবলৈ আৰম্ভ কৰে। এই নিৰ্মাণকাৰ্যটো পৰিকল্পিতভাৱে আগবাঢ়ে। অৱশেষত মকৰাটোৱে সূতাৰে কেন্দ্ৰৰ চাৰিওফালে জালখন গাঁঠিবলৈ আৰম্ভ কৰে আৰু সাৱধানতাৰে চাৰিওফালৰ এক নিৰ্দিষ্ট দূৰত্বলৈ গাঁঠি নিয়ে। যদিহে অৱলম্বনৰ বিশু দুটা ওচৰা-ওচৰিকৈ থাকে, জালখন সৰু হয়। আকৌ অৱলম্বনৰ বিশু দুটাৰ দূৰত্ব যিমানে বেছি হয় জালখনো সিমানে ডাঙৰ হয়। কিন্তু ইয়াক সদায় একেধৰণৰ পৰিকল্পিত নিৰ্ভুলতাৰে গাঁঠি উলিওৱা হয়।

শিশুৰ মনো মকৰাজালখনৰ দৰে নিৰ্ভুল পৰিকল্পনা মৰ্মে নিৰ্মিত হয়। মনৰ বিমূৰ্ত নিৰ্মাণে তাৰ চাৰিওফালে কি ঘটি আছে বুজি পাবলৈ তাক সহায় কৰে, যিটো আগতে তাৰ বোৰৰ পৰিসৰৰ বাহিৰত আছিল।

শিশুটোৱে কোনো সৰল সমাজত নে জটিল জগতত বসবাস কৰি আছে তাৰ ওপৰত নিৰ্ভৰ কৰি তাৰ মনোজালখনৰ পৰিসৰ ডাঙৰ বা সৰু হ'ব আৰু কম বা বেছি লক্ষ্যত উপনীত হ'বলৈ সহায় কৰিব।

এইকাৰণে আমি আন্তঃবিধি গঠন আৰু ইয়াৰ অভিব্যক্তি গুৰুত্ব প্ৰদান কৰা উচিত, যাক সাধাৰণতে আমাৰ বাবে অদৰকাৰী যেন বোধ হয়। মনোগঠন অত্যাবশ্যকীয়। ইয়াৰ জড়িততে শিশুৱে নিজৰ মানসিক ক্ষেত্ৰখনত বিস্তৃতি লাভ কৰে আৰু তাৰ লগে লগে তাৰ শক্তিসমূহৰো উমান পায়।

বিদ্যালয়, য'ত কেৱল নিৰ্দেশ দিয়া হয়, বুলি ভবাটো কেৱল এটা ধাৰণাহে। কিন্তু বিদ্যালয়খনক জীৱন গঢ়নৰ প্ৰক্ৰতিৰ স্থান বুলি ভবাটো অন্য এক ধাৰণা। পাছৰ ধাৰণাটো মতে বিদ্যালয়খনে জীৱনৰ সকলো প্ৰয়োজন পূৰণৰ সজ্জা প্ৰদান কৰিব লাগিব। শিশুৰ প্ৰকৃতিক অৱদমন কৰি বহা শিক্ষাই শিশুক বিকৃতিৰ বিকাশৰ পথে লৈ যায়।

বিদ্যালয়ৰ বাহিৰত স্ক্ৰাউটিঙে শিশুৰ জীৱন পৰিশীলিত কৰে আৰু সেইবাবে ই সদায় আমাক প্ৰভাৱিত কৰে।

দফাটোৰ লিখকৰ মতে শিশুক সীমিত পৰিসৰৰ শিক্ষা প্ৰদান কৰাৰ পৰিপতি কি হ'ব পাৰে?

1. ধাৰণাসমূহ সহজে অনুধাৱন কৰিবলৈ সহায় কৰে।
2. বিস্তৃত লক্ষ্যত উপনীত হ'বলৈ সহায় কৰে।
3. তাৰ প্ৰকৃত প্ৰকৃতিক অৱদমন কৰে।
4. তাৰ চিন্তা কৰিব পৰা সামৰ্থক উদগনি যোগায়।

Options :

485584146533. 1
485584146534. 2
485584146535. 3
485584146536. 4

Question Number : 250 Question Id : 48558436635 Question Type : MCQ Option Shuffling : No Is Question Mandatory : No Calculator : None Response Time : N.A Think Time : N.A Minimum Instruction Time : 0

Correct Marks : 5 Wrong Marks : 1

Question Key Details :

Key	Value
Comprehension	Comp2

The spider's web occupies a much larger space than does the animal itself. The web represents the spider's field of action in acting as a trap for insects. It is constructed according to a plan. A thread secreted by the spider joins two branches, two rocks, two supports of any kind; then he weaves the rays. The construction proceeds according to a plan. Finally the spider weaves the thread around the center, going around at an always very carefully calculated distance. If the points of support are close together, the web is small. The greater the distance of one from the other, the larger the web will be. But it will always be woven with the same exactness according to a precise plan.

As is the web, so is the mind of the child constructed according to an exact plan. The abstract construction enables him to grasp what happens in his field, which was out of his range heretofore.

Depending on whether the child lives in a simple civilisation or in a complicated world, his web will be more or less large and will enable him to attain more or fewer objectives.

This is why we must respect the interior construction and its manifestations, which may at times seem useless to us. The construction is necessary. It is thanks to this work that the child enlarges his psychic field and subsequently his receptive powers.

To consider the school as the place where instruction is given is one point of view. But to consider the school as a preparation for life is another. In the latter case the school must satisfy all the needs of life.

An education that suppresses the true nature of the child is an education that leads to the development of anomalies.

Scouting, which, outside of school, has brought an organised form of life to children, has therefore always interested us.

Which of the following are characteristics of the construction of a child's mind ?

- A. Moving outside the school restricts a child's mind.
- B. A child's mind is constructed according to a precise plan.
- C. Organisation of a child's mind may affect its receptive abilities.
- D. Inhibiting a child's true nature can lead to the development of abnormality.
- E. Concrete construction enables it to access different kinds of knowledge.

Choose the correct answer from the options given below:

- 1. A, C and D only
- 2. A, B and C only
- 3. B, C and D only
- 4. B, C, D and E only

Options :

- 485584146537. 1
- 485584146538. 2
- 485584146539. 3
- 485584146540. 4

Question Number : 250 Question Id : 48558436635 Question Type : MCQ Option Shuffling : No Is Question Mandatory : No Calculator : None Response Time : N.A Think Time : N.A Minimum Instruction Time : 0

Correct Marks : 5 Wrong Marks : 1

Question Key Details :

Key	Value
Comprehension	Comp2

এখন মকবাজালে মকবাটোৰ নিজৰ আকাৰতকৈয়ো বহু বেছি ঠাই দখল কৰি থাকে। মকবাজালখনে কীট-পতংগ ধৰিবলৈ মকবাটোৰ কাৰ্যক্ষমতাৰ প্ৰতিনিধিত্ব কৰে। এটা পৰিকল্পনাৰ আধাৰত ইয়াক সাজি উলিওৱা হয়। মকবাটোৱে নিষ্কাষিত কৰা সূতাই দুটা ডাল, দুটা শিল, দুটা যিকোনো ধৰণৰ অৱলম্বনক সংযোগ কৰে তাৰপাছত সি জালখন গাঁঠিবলৈ আৰম্ভ কৰে। এই নিৰ্মাণকাৰ্যটো পৰিকল্পিতভাৱে আগবাঢ়ে। অৱশেষত মকবাটোৱে সূতাৰে কেন্দ্ৰৰ চাৰিওফালে জালখন গাঁঠিবলৈ আৰম্ভ কৰে আৰু সাৱধানতাৰে চাৰিওফালৰ এক নিৰ্দিষ্ট দূৰত্বলৈ গাঁঠি নিয়ে। যদিহে অৱলম্বনৰ বিশু দুটা ওচৰা-ওচৰিকৈ থাকে, জালখন সৰু হয়। আকৌ অৱলম্বনৰ বিশু দুটাৰ দূৰত্ব যিমানে বেছি হয় জালখনো সিমানে ডাঙৰ হয়। কিন্তু ইয়াক সদায় একেধৰণৰ পৰিকল্পিত নিৰ্ভুলতাৰে গাঁঠি উলিওৱা হয়।

শিশুৰ মনো মকবাজালখনৰ দৰে নিৰ্ভুল পৰিকল্পনা মৰ্মে নিৰ্মিত হয়। মনৰ বিমূৰ্ত নিৰ্মাণে তাৰ চাৰিওফালে কি ঘটি আছে বুজি পাবলৈ তাক সহায় কৰে, যিটো আগতে তাৰ বোৰৰ পৰিসৰৰ বাহিৰত আছিল।

শিশুটোৱে কোনো সৰল সমাজত নে জটিল জগতত বসবাস কৰি আছে তাৰ ওপৰত নিৰ্ভৰ কৰি তাৰ মনোজালখনৰ পৰিসৰ ডাঙৰ বা সৰু হ'ব আৰু কম বা বেছি লক্ষ্যত উপনীত হ'বলৈ সহায় কৰিব।

এইকাৰণে আমি আন্তৰ্জাতিক গঠন আৰু ইয়াৰ অভিব্যক্তিৰ গুৰুত্ব প্ৰদান কৰা উচিত, যাক সাধাৰণতে আমাৰ বাবে অদৰকাৰী যেন বোধ হয়। মনোগঠন অত্যাবশ্যকীয়। ইয়াৰ জড়িততে শিশুৱে নিজৰ মানসিক ক্ষেত্ৰখনত বিস্মৃতি লাভ কৰে আৰু তাৰ লগে লগে তাৰ শক্তিসমূহৰো উমান পায়।

বিদ্যালয়, য'ত কেৱল নিৰ্দেশ দিয়া হয়, বুলি ভবাটো কেৱল এটা ধাৰণাহে। কিন্তু বিদ্যালয়খনক জীৱন গঢ়নৰ প্ৰস্তুতিৰ স্থান বুলি ভবাটো অন্য এক ধাৰণা। পাছৰ ধাৰণাটো মতে বিদ্যালয়খনে জীৱনৰ সকলো প্ৰয়োজন পূৰণৰ সম্ভাৱিত্ব প্ৰদান কৰিব লাগিব। শিশুৰ প্ৰকৃতিক অৱদমিত কৰি বহা শিক্ষাই শিশুক বিকৃতিৰ বিকাশৰ পথে লৈ যায়।

বিদ্যালয়ৰ বাহিৰত স্ক্ৰাউটিঙে শিশুৰ জীৱন পৰিশীলিত কৰে আৰু সেইবাবে ই সদায় আমাক প্ৰভাৱিত কৰে।

তলত দিয়া বৈশিষ্ট্যবোৰৰ কোনবোৰ শিশুৰ মনৰ গঠনৰ বৈশিষ্ট্য?

- বিদ্যালয়ৰ বাহিৰলৈ ওলোৱাটোৱে শিশুৰ মন বান্ধি পেলায়।
- এটি শিশুৰ মন কোনো নিৰ্দিষ্ট পৰিকল্পনাৰ আধাৰত গঠন হয়।
- শিশুৰ মনৰ সংগঠনে তাৰ নতুন চিন্তা-ধাৰা আদি গ্ৰহণেচ্ছুক সামৰ্থ্যত প্ৰভাৱ পেলাব পাৰে।
- শিশুৰ প্ৰকৃত প্ৰকৃতিত আৰোপ কৰা বাধা-নিষেধে তাক বিকৃতিৰ বিকাশৰ পথে লৈ যাব পাৰে।
- উপযুক্ত বা সুসংগঠিত গঠনে বিভিন্ন ধৰণৰ জ্ঞান আহৰণৰ পথ সুগম কৰে।

তলত দিয়া বিকল্পসমূহৰপৰা শুদ্ধ উত্তৰটো বাছি উলিওৱা:

- কেৱল A, C আৰু D
- কেৱল A, B আৰু C
- কেৱল B, C আৰু D
- কেৱল B, C, D আৰু E

Options :

485584146537. 1
485584146538. 2
485584146539. 3
485584146540. 4