

National Testing Agency

Question Paper Name : 22S3
Subject Name : 22Jun2023 Shift3 Subject Combination 1
Creation Date : 2023-06-22 20:03:07
Duration : 270
Total Marks : 1200
Display Marks: Yes

Tibetan

Group Number : 1
Group Id : 485584821
Group Maximum Duration : 45
Group Minimum Duration : 45
Show Attended Group? : No
Edit Attended Group? : No
Break time : 0
Group Marks : 200
Is this Group for Examiner? : No
Examiner permission : Cant View
Show Progress Bar? : No

Tibetan

Section Id : 485584945
Section Number : 1
Section type : Online
Mandatory or Optional : Mandatory
Number of Questions : 50
Number of Questions to be attempted : 40
Section Marks : 200
Enable Mark as Answered Mark for Review and Clear Response : Yes
Maximum Instruction Time : 0
Sub-Section Number : 1
Sub-Section Id : 4855842686
Question Shuffling Allowed : No
Is Section Default? : null
Sub-Section Number : 2
Sub-Section Id : 4855842687
Question Shuffling Allowed : No
Is Section Default? : null
Sub-Section Number : 3
Sub-Section Id : 4855842688
Question Shuffling Allowed : No
Is Section Default? : null
Sub-Section Number : 4
Sub-Section Id : 4855842689
Question Shuffling Allowed : Yes

Is Section Default? : null

Biology

Group Number : 2
Group Id : 485584822
Group Maximum Duration : 45
Group Minimum Duration : 45
Show Attended Group? : No
Edit Attended Group? : No
Break time : 0
Group Marks : 200
Is this Group for Examiner? : No
Examiner permission : Cant View
Show Progress Bar? : No

Biology

Section Id : 485584946
Section Number : 1
Section type : Online
Mandatory or Optional : Mandatory
Number of Questions : 50
Number of Questions to be attempted : 40
Section Marks : 200
Enable Mark as Answered Mark for Review and Clear Response : Yes
Maximum Instruction Time : 0
Sub-Section Number : 1
Sub-Section Id : 4855842690
Question Shuffling Allowed : Yes
Is Section Default? : null

Question Number : 1 Question Id : 48558436386 Question Type : MCQ Option Shuffling : No Is Question Mandatory : No Calculator : None Response Time : N.A Think Time : N.A Minimum Instruction Time : 0

Correct Marks : 5 Wrong Marks : 1

Question Key Details :

| Key | Value |
|---------------|-------|
| Comprehension | MCQ |

Number of chromosomes found in rice gamete is:

1. 8
2. 10
3. 12
4. 14

Options :

485584145541. 1
485584145542. 2

485584145543. 3
485584145544. 4

Question Number : 1 Question Id : 48558436386 Question Type : MCQ Option Shuffling : No Is Question Mandatory : No Calculator : None Response Time : N.A Think Time : N.A Minimum Instruction Time : 0

Correct Marks : 5 Wrong Marks : 1

Question Key Details :

| Key | Value |
|---------------|-------|
| Comprehension | MCQ |

ধানের জননকোষ বা গ্যামেটে পাওয়া ক্রোমোজোমের সংখ্যা হলোঃ

1. 8
2. 10
3. 12
4. 14

Options :

485584145541. 1
485584145542. 2
485584145543. 3
485584145544. 4

Question Number : 2 Question Id : 48558436387 Question Type : MCQ Option Shuffling : No Is Question Mandatory : No Calculator : None Response Time : N.A Think Time : N.A Minimum Instruction Time : 0

Correct Marks : 5 Wrong Marks : 1

Question Key Details :

| Key | Value |
|---------------|-------|
| Comprehension | MCQ |

Match List I with List II

| LIST I (Vegetative propagules) | | LIST II (Example) | |
|-----------------------------------|-----------|----------------------|----------------|
| A. | Leaf buds | I. | Water hyacinth |
| B. | Rhizome | II. | Agave |
| C. | Offset | III. | Ginger |
| D. | Bulbil | IV. | Bryophyllum |

Choose the correct answer from the options given below:

1. A-III, B-IV, C-II, D-I
2. A-II, B-IV, C-I, D-III
3. A-IV, B-III, C-I, D-II
4. A-III, B-II, C-IV, D-I

Options :

485584145545. 1

485584145546. 2
485584145547. 3
485584145548. 4

Question Number : 2 Question Id : 48558436387 Question Type : MCQ Option Shuffling : No Is Question Mandatory :
No Calculator : None Response Time : N.A Think Time : N.A Minimum Instruction Time : 0

Correct Marks : 5 Wrong Marks : 1

Question Key Details :

| Key | Value |
|---------------|-------|
| Comprehension | MCQ |

তালিকা I-র সঙ্গে তালিকা II-কে মেলাও

| LIST I (অঙ্গজ প্রবর্ধক) | | LIST II (উদাহরণ) | |
|----------------------------|------------------------|---------------------|--------------------------|
| A. | পত্রমুকুল | I. | ফচুরিপানা |
| B. | রাইজোম | II. | এগেভ |
| C. | জলধাবক বা অফসেট | III. | আদা |
| D. | প্রজেনন কন্দ বা বুলবিল | IV. | পাথরকুচি (ব্রায়োফাইলাম) |

নিম্ন প্রদত্ত বিকল্পগুলি থেকে সঠিক উত্তর বেছে নাওঃ

1. A-III, B-IV, C-II, D-I
2. A-II, B-IV, C-I, D-III
3. A-IV, B-III, C-I, D-II
4. A-III, B-II, C-IV, D-I

Options :

485584145545. 1
485584145546. 2
485584145547. 3
485584145548. 4

Question Number : 3 Question Id : 48558436388 Question Type : MCQ Option Shuffling : No Is Question Mandatory :
No Calculator : None Response Time : N.A Think Time : N.A Minimum Instruction Time : 0

Correct Marks : 5 Wrong Marks : 1

Question Key Details :

| Key | Value |
|---------------|-------|
| Comprehension | MCQ |

Residual and persistent nucellus present in some seeds is called:

1. Seed coat
2. Pericarp
3. Perisperm
4. Achene

Options :

485584145549. 1
485584145550. 2
485584145551. 3
485584145552. 4

Question Number : 3 Question Id : 48558436388 Question Type : MCQ Option Shuffling : No Is Question Mandatory : No Calculator : None Response Time : N.A Think Time : N.A Minimum Instruction Time : 0

Correct Marks : 5 Wrong Marks : 1

Question Key Details :

| Key | Value |
|---------------|-------|
| Comprehension | MCQ |

কিছু কিছু বীজে থাকে অবশিষ্ট কিন্তু দীর্ঘস্থায়ী নিউসেলাসকে বলা হয়ঃ

1. বীজত্বক
2. ফলত্বক
3. পরিব্রূণপোষক বা পেরিস্পার্ম
4. অ্যাকিন

Options :

485584145549. 1
485584145550. 2
485584145551. 3
485584145552. 4

Question Number : 4 Question Id : 48558436389 Question Type : MCQ Option Shuffling : No Is Question Mandatory : No Calculator : None Response Time : N.A Think Time : N.A Minimum Instruction Time : 0

Correct Marks : 5 Wrong Marks : 1

Question Key Details :

| Key | Value |
|---------------|-------|
| Comprehension | MCQ |

The wall layer which provides nourishment to the developing pollen grains is called:

1. Epidermis
2. Endothecium
3. Middle Layer
4. Tapetum

Options :

485584145553. 1
485584145554. 2
485584145555. 3
485584145556. 4

Question Number : 4 Question Id : 48558436389 Question Type : MCQ Option Shuffling : No Is Question Mandatory : No Calculator : None Response Time : N.A Think Time : N.A Minimum Instruction Time : 0

Correct Marks : 5 Wrong Marks : 1

Question Key Details :

| Key | Value |
|---------------|-------|
| Comprehension | MCQ |

কোষ প্রাচীরের যে স্তরে বিকাশশীল পরাগরেণুগুলোকে পুষ্টির যোগান ধরে তাকে বলা হয়:

1. বহিস্তর বা এপিডার্মিস
2. অন্তঃস্তর বা এন্ডোথেসিয়াম
3. মধ্যস্তর
4. শোষক স্তর বা টেপেটাম

Options :

485584145553. 1
485584145554. 2
485584145555. 3
485584145556. 4

Question Number : 5 Question Id : 48558436390 Question Type : MCQ Option Shuffling : No Is Question Mandatory : No Calculator : None Response Time : N.A Think Time : N.A Minimum Instruction Time : 0

Correct Marks : 5 Wrong Marks : 1

Question Key Details :

| Key | Value |
|---------------|-------|
| Comprehension | MCQ |

Spermiation is the _____.

1. Process of release of sperms from the seminiferous tubules
2. Process of formation of sperms
3. Transformation of spermatids into sperms
4. Process of formation of spermatogonia

Options :

485584145557. 1
485584145558. 2
485584145559. 3
485584145560. 4

Question Number : 5 Question Id : 48558436390 Question Type : MCQ Option Shuffling : No Is Question Mandatory : No Calculator : None Response Time : N.A Think Time : N.A Minimum Instruction Time : 0

Correct Marks : 5 Wrong Marks : 1

Question Key Details :

| Key | Value |
|---------------|-------|
| Comprehension | MCQ |

স্পার্মিয়েশ্যন হলোঃ

1. শুক্রবাহী নলিকা থেকে শুক্রাণু নির্গত হওয়া প্রক্রিয়া
2. শুক্রাণু গঠন হওয়া প্রক্রিয়া
3. অপরিণত শুক্রকোষগুলি (স্পার্মাটিড) শুক্রাণুতে রূপান্তরিত হওয়া প্রক্রিয়া
4. স্পার্মাটোগোনিয়া গঠন হওয়া প্রক্রিয়া

Options :

485584145557. 1
485584145558. 2
485584145559. 3
485584145560. 4

Question Number : 6 Question Id : 48558436391 Question Type : MCQ Option Shuffling : No Is Question Mandatory : No Calculator : None Response Time : N.A Think Time : N.A Minimum Instruction Time : 0

Correct Marks : 5 Wrong Marks : 1

Question Key Details :

| Key | Value |
|---------------|-------|
| Comprehension | MCQ |

Which of the following hormones are secreted by placenta?

- A. hCG
- B. hPL
- C. Estrogens
- D. Progestogens
- E. Relaxin

Choose the correct answer from the options given below:

1. A, B, and E only
2. A, B, C and E only
3. A, B, D and E only
4. A, B, C and D only

Options :

- 485584145561. 1
- 485584145562. 2
- 485584145563. 3
- 485584145564. 4

Question Number : 6 Question Id : 48558436391 Question Type : MCQ Option Shuffling : No Is Question Mandatory : No Calculator : None Response Time : N.A Think Time : N.A Minimum Instruction Time : 0

Correct Marks : 5 Wrong Marks : 1

Question Key Details :

| Key | Value |
|---------------|-------|
| Comprehension | MCQ |

নিচের কোনগুলি হরমোন প্লেসেন্টা বা জননফুল থেকে নিঃসারিত হয়?

- A. hCG
- B. hPL
- C. ইস্ট্রোজেন
- D. প্রোজেস্টোজেন
- E. রিলেক্সিন

নিম্ন প্রদত্ত বিকল্পগুলি থেকে সঠিক উত্তর বেছে নাও:

1. কেবল A এবং E
2. কেবল A, B এবং E
3. কেবল A, B, D এবং E
4. কেবল A, B, C এবং D

Options :

- 485584145561. 1
- 485584145562. 2

485584145563. 3

485584145564. 4

Question Number : 7 Question Id : 48558436392 Question Type : MCQ Option Shuffling : No Is Question Mandatory : No Calculator : None Response Time : N.A Think Time : N.A Minimum Instruction Time : 0

Correct Marks : 5 Wrong Marks : 1

Question Key Details :

| Key | Value |
|---------------|-------|
| Comprehension | MCQ |

Which of the following disease is completely curable if detected early?

1. Genital herpes
2. HIV infections
3. Hepatitis-B
4. Trichomoniasis

Options :

485584145565. 1

485584145566. 2

485584145567. 3

485584145568. 4

Question Number : 7 Question Id : 48558436392 Question Type : MCQ Option Shuffling : No Is Question Mandatory : No Calculator : None Response Time : N.A Think Time : N.A Minimum Instruction Time : 0

Correct Marks : 5 Wrong Marks : 1

Question Key Details :

| Key | Value |
|---------------|-------|
| Comprehension | MCQ |

নিচের কোনটি রোগ শুরুতেই ধরা পড়লে রোগী সম্পূর্ণরূপে আরোগ্য লাভ করতে পারে?

1. জননাঙ্গের হার্পিস
2. HIV সংক্রমণ
3. হ্যাপাটাইটিস-B
4. ট্রাইকোমোনিয়াসিস

Options :

485584145565. 1

485584145566. 2

485584145567. 3

485584145568. 4

Question Number : 8 Question Id : 48558436393 Question Type : MCQ Option Shuffling : No Is Question Mandatory : No Calculator : None Response Time : N.A Think Time : N.A Minimum Instruction Time : 0

Correct Marks : 5 Wrong Marks : 1

Question Key Details :

| Key | Value |
|---------------|-------|
| Comprehension | MCQ |

Identify the terminal methods to prevent pregnancy.

- A. Tubectomy
- B. Vasectomy
- C. IUDs
- D. Cervical caps

Choose the correct answer from the options given below:

- 1. A and D only
- 2. A and C only
- 3. B and D only
- 4. A and B only

Options :

- 485584145569. 1
- 485584145570. 2
- 485584145571. 3
- 485584145572. 4

Question Number : 8 Question Id : 48558436393 Question Type : MCQ Option Shuffling : No Is Question Mandatory : No Calculator : None Response Time : N.A Think Time : N.A Minimum Instruction Time : 0

Correct Marks : 5 Wrong Marks : 1

Question Key Details :

| Key | Value |
|---------------|-------|
| Comprehension | MCQ |

গর্ভধারণ রোধ করার চরম বা টার্মিন্যাল পদ্ধতিগুলো চিহ্নিত কর।

- A. টিউবেকটমি বা ডিম্ববাহিকা কর্তন
- B. ভেসেব্‌টমি বা শুক্রবাহিকা কর্তন
- C. IUD
- D. সার্ভিক্যাল ক্যাপ

নিম্ন প্রদত্ত বিকল্পগুলি থেকে সঠিক উত্তর বেছে নাও:

- 1. কেবল A এবং D
- 2. কেবল A এবং C
- 3. কেবল B এবং D
- 4. কেবল A এবং B

Options :

- 485584145569. 1
- 485584145570. 2

485584145571. 3

485584145572. 4

Question Number : 9 Question Id : 48558436394 Question Type : MCQ Option Shuffling : No Is Question Mandatory : No Calculator : None Response Time : N.A Think Time : N.A Minimum Instruction Time : 0

Correct Marks : 5 Wrong Marks : 1

Question Key Details :

| Key | Value |
|---------------|-------|
| Comprehension | MCQ |

The person with karyotype $44+XXY$ is suffering from:

1. Down's Syndrome
2. Klinefelter's Syndrome
3. Turner's Syndrome
4. Edward's Syndrome

Options :

485584145573. 1

485584145574. 2

485584145575. 3

485584145576. 4

Question Number : 9 Question Id : 48558436394 Question Type : MCQ Option Shuffling : No Is Question Mandatory : No Calculator : None Response Time : N.A Think Time : N.A Minimum Instruction Time : 0

Correct Marks : 5 Wrong Marks : 1

Question Key Details :

| Key | Value |
|---------------|-------|
| Comprehension | MCQ |

$44+XXY$ ক্যারিওটাইপযুক্ত ব্যক্তি একজন ভুগছেন কিসেঃ

1. ডাউন সিনড্রোম
2. ক্লাইনফেল্টার সিনড্রোম
3. টার্নার সিনড্রোম
4. অ্যাডওয়ার্ড সিনড্রোম

Options :

485584145573. 1

485584145574. 2

485584145575. 3

485584145576. 4

Question Number : 10 Question Id : 48558436395 Question Type : MCQ Option Shuffling : No Is Question Mandatory : No Calculator : None Response Time : N.A Think Time : N.A Minimum Instruction Time : 0

Correct Marks : 5 Wrong Marks : 1

Question Key Details :

| Key | Value |
|---------------|-------|
| Comprehension | MCQ |

Select the mendelian disorders from the following:

- A. Thalassemia
- B. Turner's Syndrome
- C. Cystic Fibrosis
- D. Sickle cell anaemia

Choose the *correct answer* from the options given below:

- 1. B and D only
- 2. A, C and D only
- 3. B, C and D only
- 4. A and D only

Options :

- 485584145577. 1
- 485584145578. 2
- 485584145579. 3
- 485584145580. 4

Question Number : 10 Question Id : 48558436395 Question Type : MCQ Option Shuffling : No Is Question Mandatory : No Calculator : None Response Time : N.A Think Time : N.A Minimum Instruction Time : 0

Correct Marks : 5 Wrong Marks : 1

Question Key Details :

| Key | Value |
|---------------|-------|
| Comprehension | MCQ |

মেন্ডেলিয় বিসংগতিগুলো বেছে নাও

- A. থালাসেমিয়া
- B. টার্নার সিনড্রোম
- C. সিস্টিক ফাইব্রোসিস
- D. সিকেল সেল অ্যানিমিয়া

নিম্ন প্রদত্ত বিকল্পগুলি থেকে সঠিক উত্তর বেছে নাও:

- 1. কেবল B এবং D
- 2. কেবল A, C এবং D
- 3. কেবল B, C এবং D
- 4. কেবল A এবং D

Options :

- 485584145577. 1

485584145578. 2
485584145579. 3
485584145580. 4

Question Number : 11 Question Id : 48558436396 Question Type : MCQ Option Shuffling : No Is Question Mandatory : No Calculator : None Response Time : N.A Think Time : N.A Minimum Instruction Time : 0

Correct Marks : 5 Wrong Marks : 1

Question Key Details :

| Key | Value |
|---------------|-------|
| Comprehension | MCQ |

Match List I with List II

| LIST I | | LIST II | |
|--------|--|---------|-----------------------|
| A. | Phenotype reflects the contribution of each allele | I. | Pleiotropy |
| B. | Multiple phenotypic expressions by a single gene | II. | Linkage |
| C. | Generation of non-parental gene combinations | III. | Polygenic inheritance |
| D. | Parental gene combinations higher than non-parental type in F ₂ progeny | IV. | Recombination |

Choose the correct answer from the options given below:

1. A-III, B-I, C-IV, D-II
2. A-I, B-IV, C-II, D-III
3. A-III, B-IV, C-I, D-II
4. A-I, B-III, C-II, D-IV

Options :

485584145581. 1
485584145582. 2
485584145583. 3
485584145584. 4

Question Number : 11 Question Id : 48558436396 Question Type : MCQ Option Shuffling : No Is Question Mandatory : No Calculator : None Response Time : N.A Think Time : N.A Minimum Instruction Time : 0

Correct Marks : 5 Wrong Marks : 1

Question Key Details :

| Key | Value |
|---------------|-------|
| Comprehension | MCQ |

তালিকা I-র সঙ্গে তালিকা II-কে মেলাও

| LIST I | | LIST II | |
|--------|--|---------|---------------------------|
| A. | ফেনোটাইপ বা ব্যক্তিরূপে প্রতিটি এলিল বা যুগ্মবিকল্পীর অবদান প্রতিফলিত করে | I. | প্রিওট্রপি |
| B. | একটা একক জিন দ্বারা বিবিধ ফেনোটাইপ বা ব্যক্তিরূপের প্রকাশ | II. | লিঙ্কেজ বা সংলগ্নতা |
| C. | অ-জননমূলের জিন-সংযুতির সৃষ্টি | III. | বহুজিনীয় বংশগতি |
| D. | F_2 সন্ততির ক্ষেত্রে অ-জননমূলের সংযুতি থেকে জননমূলের জিন সংযুতির সংখ্যা বেশি | IV. | পুনঃসংযোজন বা রিকম্বিনেশন |

নিম্ন প্রদত্ত বিকল্পগুলি থেকে সঠিক উত্তর বেছে নাও:

1. A-III, B-I, C-IV, D-II
2. A-I, B-IV, C-II, D-III
3. A-III, B-IV, C-I, D-II
4. A-I, B-III, C-II, D-IV

Options :

485584145581. 1
485584145582. 2
485584145583. 3
485584145584. 4

Question Number : 12 Question Id : 48558436397 Question Type : MCQ Option Shuffling : No Is Question Mandatory : No Calculator : None Response Time : N.A Think Time : N.A Minimum Instruction Time : 0

Correct Marks : 5 Wrong Marks : 1

Question Key Details :

| Key | Value |
|---------------|-------|
| Comprehension | MCQ |

Point mutations means:

1. Change in one base pair
2. Change in one allele
3. Change of base pair at a location without any significance
4. Addition or deletion of codons in multiple of three at a point

Options :

485584145585. 1
485584145586. 2
485584145587. 3
485584145588. 4

Question Number : 12 Question Id : 48558436397 Question Type : MCQ Option Shuffling : No Is Question Mandatory : No Calculator : None Response Time : N.A Think Time : N.A Minimum Instruction Time : 0

Correct Marks : 5 Wrong Marks : 1

Question Key Details :

| Key | Value |
|---------------|-------|
| Comprehension | MCQ |

বিন্দু উৎপরিবর্তন বা পয়েন্ট মিউটেশন মানেঃ

1. একজোড়া ক্ষারকের পরিবর্তন
2. একটা এলিল বা যুগ্মবিকল্পীর পরিবর্তন
3. নির্দিষ্ট গুরুত্বহীন কোনো এক স্থানে থাকা ক্ষারক যুগলের পরিবর্তন
4. কোনো এক বিন্দুস্থানে তিনের গুণিতকের রূপে সংকেতিকা বা কোডোনের সংযোজন অথবা বিলুপ্তিকরণ

Options :

485584145585. 1
485584145586. 2
485584145587. 3
485584145588. 4

Question Number : 13 Question Id : 48558436398 Question Type : MCQ Option Shuffling : No Is Question Mandatory : No Calculator : None Response Time : N.A Think Time : N.A Minimum Instruction Time : 0

Correct Marks : 5 Wrong Marks : 1

Question Key Details :

| Key | Value |
|---------------|-------|
| Comprehension | MCQ |

Which of the following is a stop codon?

1. UAC
2. UAG
3. UAU
4. AUG

Options :

485584145589. 1
485584145590. 2
485584145591. 3
485584145592. 4

Question Number : 13 Question Id : 48558436398 Question Type : MCQ Option Shuffling : No Is Question Mandatory : No Calculator : None Response Time : N.A Think Time : N.A Minimum Instruction Time : 0

Correct Marks : 5 Wrong Marks : 1

Question Key Details :

| Key | Value |
|---------------|-------|
| Comprehension | MCQ |

নিচের কোনটি হচ্ছে একটি স্টপ কোডোন বা বিরাম সংকেতিকা?

1. UAC
2. UAG
3. UAU
4. AUG

Options :

485584145589. 1
485584145590. 2
485584145591. 3
485584145592. 4

Question Number : 14 Question Id : 48558436399 Question Type : MCQ Option Shuffling : No Is Question Mandatory : No Calculator : None Response Time : N.A Think Time : N.A Minimum Instruction Time : 0

Correct Marks : 5 Wrong Marks : 1

Question Key Details :

| Key | Value |
|---------------|-------|
| Comprehension | MCQ |

Match List I with List II

| LIST I (Codes) | | LIST II (Codes for) | |
|-------------------|-----|------------------------|------------------|
| A. | UUU | I. | Phenylalanine |
| B. | AUG | II. | Initiator codon |
| C. | UAA | III. | Terminator codon |
| D. | GUU | IV. | Valine |

Choose the correct answer from the options given below:

1. A-I, B-II, C-III, D-IV
2. A-II, B-I, C-III, D-IV
3. A-I, B-II, C-IV, D-III
4. A-III, B-IV, C-I, D-II

Options :

485584145593. 1
485584145594. 2
485584145595. 3
485584145596. 4

Question Number : 14 Question Id : 48558436399 Question Type : MCQ Option Shuffling : No Is Question Mandatory : No Calculator : None Response Time : N.A Think Time : N.A Minimum Instruction Time : 0

Correct Marks : 5 Wrong Marks : 1

Question Key Details :

| Key | Value |
|-----|-------|
|-----|-------|

তালিকা I-র সঙ্গে তালিকা II-কে মেলাও

| LIST I (সংকেত বা কোড) | | LIST II (সংকেতের লক্ষ্য) | |
|--------------------------|-----|-----------------------------|------------------------------|
| A. | UUU | I. | ফিনাইল এলানিন |
| B. | AUG | II. | প্রারম্ভিক সংকেতিকা বা কোডোন |
| C. | UAG | III. | সমাপ্তিকরণ সংকেতিকা বা কোডোন |
| D. | GUU | IV. | ভেলাইন |

নিম্ন প্রদত্ত বিকল্পগুলি থেকে সঠিক উত্তর বেছে নাওঃ

1. A-I, B-II, C-III, D-IV
2. A-II, B-I, C-III, D-IV
3. A-I, B-II, C-IV, D-III
4. A-III, B-IV, C-I, D-II

Options :

485584145593. 1
485584145594. 2
485584145595. 3
485584145596. 4

Question Number : 15 Question Id : 48558436400 Question Type : MCQ Option Shuffling : No Is Question Mandatory : No Calculator : None Response Time : N.A Think Time : N.A Minimum Instruction Time : 0

Correct Marks : 5 Wrong Marks : 1

Question Key Details :

| Key | Value |
|---------------|-------|
| Comprehension | MCQ |

Multiple additions of new genes or alleles to the new population and their loss from the old population of a particular place due to migration is known as:

1. Gene flow
2. Genetic drift
3. Mutation
4. Natural selection

Options :

485584145597. 1
485584145598. 2
485584145599. 3
485584145600. 4

Question Number : 15 Question Id : 48558436400 Question Type : MCQ Option Shuffling : No Is Question Mandatory : No Calculator : None Response Time : N.A Think Time : N.A Minimum Instruction Time : 0

Correct Marks : 5 Wrong Marks : 1

Question Key Details :

| Key | Value |
|---------------|-------|
| Comprehension | MCQ |

প্রব্রজনের ফলে কোনো এক জায়গার নতুন জনবসতিতে নতুন নতুন জিন বা এলিলের একাধিক সংযোজন তথা পুরনো জনবসতি থেকে নতুন জনবসতির ক্রমান্বয়ে ঘটা বিলোপাত্মক পরিবর্তনকে বলা হয়ঃ

1. জিন প্রবাহ
2. জিনীয় বা আনুবংশিক সম্প্রবাহ (ড্রিফ্ট)
3. উৎপরিবর্তন বা মিউটেশন
4. প্রাকৃতিক চয়ন

Options :

485584145597. 1
485584145598. 2
485584145599. 3
485584145600. 4

Question Number : 16 Question Id : 48558436401 Question Type : MCQ Option Shuffling : No Is Question Mandatory : No Calculator : None Response Time : N.A Think Time : N.A Minimum Instruction Time : 0

Correct Marks : 5 Wrong Marks : 1

Question Key Details :

| Key | Value |
|---------------|-------|
| Comprehension | MCQ |

Australian marsupials show the phenomena of:

1. Convergent evolution
2. Adaptive radiation
3. Isolation
4. Saltation

Options :

485584145601. 1
485584145602. 2
485584145603. 3
485584145604. 4

Question Number : 16 Question Id : 48558436401 Question Type : MCQ Option Shuffling : No Is Question Mandatory : No Calculator : None Response Time : N.A Think Time : N.A Minimum Instruction Time : 0

Correct Marks : 5 Wrong Marks : 1

Question Key Details :

| Key | Value |
|---------------|-------|
| Comprehension | MCQ |

অস্ট্রেলিয়ায় থাকা ঝোলাধারী প্রাণীগুলো প্রদর্শন করা পরিঘটনাটি হলোঃ

1. অভিসারী বিবর্তন
2. অভিযোজিত বিকিরণ
3. অন্তরণ বা পৃথকীকরণ
4. উৎজাম্পন বা সল্টেশন

Options :

485584145601. 1
485584145602. 2
485584145603. 3
485584145604. 4

Question Number : 17 Question Id : 48558436402 Question Type : MCQ Option Shuffling : No Is Question Mandatory : No Calculator : None Response Time : N.A Think Time : N.A Minimum Instruction Time : 0

Correct Marks : 5 Wrong Marks : 1

Question Key Details :

| Key | Value |
|---------------|-------|
| Comprehension | MCQ |

Identify the examples of evolution caused due to anthropogenic actions:

- A. *Bacillus thuringiensis* and Lepidopterans
- B. Industrial melanism in moths
- C. Resistant microbes against antibiotics
- D. Pesticides and insects

Choose the correct answer from the options given below:

1. A, B and C only
2. A, B and D only
3. B, C and D only
4. A, C and D Only

Options :

485584145605. 1
485584145606. 2
485584145607. 3
485584145608. 4

Question Number : 17 Question Id : 48558436402 Question Type : MCQ Option Shuffling : No Is Question Mandatory : No Calculator : None Response Time : N.A Think Time : N.A Minimum Instruction Time : 0

Correct Marks : 5 Wrong Marks : 1

Question Key Details :

| Key | Value |
|---------------|-------|
| Comprehension | MCQ |

মানবকৃত কার্যের ফলে সংঘটিত বিবর্তনের উদাহরণগুলো নিচের থেকে সনাক্ত করঃ

- A. বেসিলাস থুরিনজিয়েনসিস এবং লোপিডোপেটরান
- B. মথের শরীরে ঘটা শিল্পজনিত কৃষ্ণবর্ণত্ব বা মেলানিজম
- C. প্রতিজৈবিক বা অ্যান্টিবায়োটিক প্রতিরোধী অণুজীব বা মাইক্রোব
- D. কীটনাশক এবং পতঙ্গ

নিম্ন প্রদত্ত বিকল্পগুলি থেকে সঠিক উত্তর বেছে নাওঃ

1. A, B, C

2. A, B, D

3. B, C, D

4. A, C, D

Options :

- 485584145605. 1
- 485584145606. 2
- 485584145607. 3
- 485584145608. 4

Question Number : 18 Question Id : 48558436403 Question Type : MCQ Option Shuffling : No Is Question Mandatory : No Calculator : None Response Time : N.A Think Time : N.A Minimum Instruction Time : 0

Correct Marks : 5 Wrong Marks : 1

Question Key Details :

| Key | Value |
|---------------|-------|
| Comprehension | MCQ |

The presence of which disease is confirmed by Widal Test?

- 1. Malaria
- 2. Pneumonia
- 3. Typhoid
- 4. AIDS

Options :

- 485584145609. 1
- 485584145610. 2
- 485584145611. 3
- 485584145612. 4

Question Number : 18 Question Id : 48558436403 Question Type : MCQ Option Shuffling : No Is Question Mandatory : No Calculator : None Response Time : N.A Think Time : N.A Minimum Instruction Time : 0

Correct Marks : 5 Wrong Marks : 1

Question Key Details :

| Key | Value |
|-----|-------|
|-----|-------|

নিচের কোন রোগের উপস্থিতি ওয়াইডেল পরীক্ষার দ্বারা নিশ্চিত করা যায়?

1. ম্যালেরিয়া
2. নিউমোনিয়া
3. টাইফয়েড
4. এইডস

Options :

485584145609. 1
485584145610. 2
485584145611. 3
485584145612. 4

Question Number : 19 Question Id : 48558436404 Question Type : MCQ Option Shuffling : No Is Question Mandatory : No Calculator : None Response Time : N.A Think Time : N.A Minimum Instruction Time : 0

Correct Marks : 5 Wrong Marks : 1

Question Key Details :

| Key | Value |
|---------------|-------|
| Comprehension | MCQ |

Arrange the stages of HIV infection in humans sequentially.

- A. Introduction of viral DNA in the cell
- B. Production of multiple viruses
- C. Infection of human cell by virus
- D. Incorporation of viral DNA into host genome

Choose the correct answer from the options given below:

1. A, B, D, C
2. C, A, D, B
3. D, A, B, C
4. B, A, D, C

Options :

485584145613. 1
485584145614. 2
485584145615. 3
485584145616. 4

Question Number : 19 Question Id : 48558436404 Question Type : MCQ Option Shuffling : No Is Question Mandatory : No Calculator : None Response Time : N.A Think Time : N.A Minimum Instruction Time : 0

Correct Marks : 5 Wrong Marks : 1

Question Key Details :

| Key | Value |
|-----|-------|
| | |

মানবশরীরে ঘটা HIV সংক্রমণের পর্যায়সমূহ শুরু থেকে শেষ অব্দি পর্যায়ক্রমে সাজাও।

- কোষে ভাইরাসের DNA প্রবেশ
- বিবিধ ভাইরাসের উৎপাদন
- মানবশরীরের কোষে ভাইরাসের সংক্রমণ
- পোষক জিনোমে ভাইরাসের DNA-র সংস্থাপন

নিম্ন প্রদত্ত বিকল্পগুলি থেকে সঠিক উত্তর বেছে নাও:

- A, B, D, C
- C, A, D, B
- D, A, B, C
- B, A, D, C

Options :

485584145613. 1
485584145614. 2
485584145615. 3
485584145616. 4

Question Number : 20 Question Id : 48558436405 Question Type : MCQ Option Shuffling : No Is Question Mandatory : No Calculator : None Response Time : N.A Think Time : N.A Minimum Instruction Time : 0

Correct Marks : 5 Wrong Marks : 1

Question Key Details :

| Key | Value |
|---------------|-------|
| Comprehension | MCQ |

Match List I with List II

| LIST I Causal organism | | LIST II Disease | |
|---------------------------|------------------------------|--------------------|---------------|
| A. | <i>Wuchereria bancrofti</i> | I. | Ringworm |
| B. | <i>Microsporium</i> | II. | Elephantiasis |
| C. | <i>Entamoeba histolytica</i> | III. | Malaria |
| D. | <i>Plasmodium vivax</i> | IV. | Amoebiasis |

Choose the correct answer from the options given below:

- A-II, B-I, C-IV, D-III
- A-I, B-II, C-III, D-IV
- A-IV, B-III, C-II, D-I
- A-I, B-II, C-IV, D-III

Options :

485584145617. 1
485584145618. 2
485584145619. 3

485584145620. 4

Question Number : 20 Question Id : 48558436405 Question Type : MCQ Option Shuffling : No Is Question Mandatory : No Calculator : None Response Time : N.A Think Time : N.A Minimum Instruction Time : 0

Correct Marks : 5 Wrong Marks : 1

Question Key Details :

| Key | Value |
|---------------|-------|
| Comprehension | MCQ |

তালিকা I-র সঙ্গে তালিকা II-কে মেনাও

| LIST I (কারক জীব) | | LIST II (রোগ) | |
|----------------------|--------------------------|------------------|-------------------|
| A. | বুসেরেরিয়া ব্যাকটেরিয়া | I. | দাউ |
| B. | মাইক্রোপ্লাম | II. | এলিফ্যান্টিয়াসিস |
| C. | এন্টামিবা হিস্টোলাইটিকা | III. | ম্যানেরিয়া |
| D. | প্রাজমোডিয়াম ভাইভেক্স | IV. | অ্যামিবিয়াসিস |

নিম্ন প্রদত্ত বিকল্পগুলি থেকে সঠিক উত্তর বেছে নাও:

1. A-II, B-I, C-IV, D-III

2. A-I, B-II, C-III, D-IV

3. A-IV, B-III, C-II, D-I

4. A-I, B-II, C-IV, D-III

Options :

485584145617. 1

485584145618. 2

485584145619. 3

485584145620. 4

Question Number : 21 Question Id : 48558436406 Question Type : MCQ Option Shuffling : No Is Question Mandatory : No Calculator : None Response Time : N.A Think Time : N.A Minimum Instruction Time : 0

Correct Marks : 5 Wrong Marks : 1

Question Key Details :

| Key | Value |
|---------------|-------|
| Comprehension | MCQ |

Homozygosity is achieved through :

1. Recombinant DNA technology

2. Vaccination

3. Inbreeding

4. Hybridoma technology

Options :

485584145621. 1
485584145622. 2
485584145623. 3
485584145624. 4

Question Number : 21 Question Id : 48558436406 Question Type : MCQ Option Shuffling : No Is Question Mandatory : No Calculator : None Response Time : N.A Think Time : N.A Minimum Instruction Time : 0

Correct Marks : 5 Wrong Marks : 1

Question Key Details :

| Key | Value |
|---------------|-------|
| Comprehension | MCQ |

সমযুগ্মজতা বা হোমোযাইগোসিটি পাওয়া যেতে পারেঃ

1. পুনঃসংযোজিত বা রিকম্বিন্যান্ট DNA প্রযুক্তির দ্বারা
2. টিকাকরণের মাধ্যমে
3. অন্তঃপ্রজনন বা ইনব্রিডিং দ্বারা
4. সংকরকোষীয় বা হাইব্রিডোমা প্রযুক্তির দ্বারা

Options :

485584145621. 1
485584145622. 2
485584145623. 3
485584145624. 4

Question Number : 22 Question Id : 48558436407 Question Type : MCQ Option Shuffling : No Is Question Mandatory : No Calculator : None Response Time : N.A Think Time : N.A Minimum Instruction Time : 0

Correct Marks : 5 Wrong Marks : 1

Question Key Details :

| Key | Value |
|---------------|-------|
| Comprehension | MCQ |

Arrange the steps involved in breeding a crop for a new genetic variety in sequence.

- A. Selection and testing of superior recombinants
- B. Evaluation and selection of parents
- C. Collection of variability
- D. Testing release and commercialisation of new cultivars
- E. Cross hybridisation among selected parents

Choose the correct answer from the options given below:

1. A → C → B → E → D
2. B → D → A → C → E
3. C → B → E → A → D
4. D → B → A → E → C

Options :

485584145625. 1
 485584145626. 2
 485584145627. 3
 485584145628. 4

Question Number : 22 Question Id : 48558436407 Question Type : MCQ Option Shuffling : No Is Question Mandatory : No Calculator : None Response Time : N.A Think Time : N.A Minimum Instruction Time : 0

Correct Marks : 5 Wrong Marks : 1

Question Key Details :

| Key | Value |
|---------------|-------|
| Comprehension | MCQ |

একটি শস্যের নতুন জিনীয় প্রকার একটা উদ্ভাবন করার সঙ্গে জড়িত নিচের পর্যায়গুলো শুরু থেকে শেষ পর্যন্ত ক্রমাগতভাবে সাজাও।

- A. উন্নত পুনঃসংযোজিত বা রিকম্বিন্যান্টের নির্বাচন এবং পরীক্ষণ
 B. জনক প্রজাতিগুলোর (প্যারেন্ট) মূল্যায়ন এবং নির্বাচন
 C. বিভেদ্যতা বা ভেরিয়েবিলিটির সংগ্রহ
 D. নব উৎপাদিত শস্যটি বাজারে পরীক্ষামূলক ভাবে প্রবর্তন করা এবং তার ব্যবসায়করণ
 E. নির্বাচিত জনক প্রজাতিসমূহের মধ্যে বর্ণসংকরণ

নিম্ন প্রদত্ত বিকল্পগুলি থেকে সঠিক উত্তর বেছে নাও:

1. A → C → B → E → D
 2. B → D → A → C → E
 3. C → B → E → A → D
 4. D → B → A → E → C

Options :

485584145625. 1
 485584145626. 2
 485584145627. 3
 485584145628. 4

Question Number : 23 Question Id : 48558436408 Question Type : MCQ Option Shuffling : No Is Question Mandatory : No Calculator : None Response Time : N.A Think Time : N.A Minimum Instruction Time : 0

Correct Marks : 5 Wrong Marks : 1

Question Key Details :

| Key | Value |
|---------------|-------|
| Comprehension | MCQ |

Match List I with List II

| LIST I | | LIST II | |
|--------|--------------------|---------|-------------|
| A. | <i>Apis indica</i> | I. | Dairying |
| B. | <i>Carla</i> | II. | Poultry |
| C. | Leghorn | III. | Fisheries |
| D. | Jersey | IV. | Bee-keeping |

Choose the correct answer from the options given below:

1. A-I, B-II, C-III, D-IV
2. A-II, B-I, C-III, D-IV
3. A-IV, B-III, C-II, D-I
4. A-III, B-IV, C-I, D-II

Options :

485584145629. 1
485584145630. 2
485584145631. 3
485584145632. 4

Question Number : 23 Question Id : 48558436408 Question Type : MCQ Option Shuffling : No Is Question Mandatory : No Calculator : None Response Time : N.A Think Time : N.A Minimum Instruction Time : 0

Correct Marks : 5 Wrong Marks : 1

Question Key Details :

| Key | Value |
|---------------|-------|
| Comprehension | MCQ |

তালিকা I-র সঙ্গে তালিকা II-কে মেলাও

| LIST I | | LIST II | |
|--------|-------------------|---------|----------------------|
| A. | অ্যান্টিস ইন্ডিকা | I. | দুগ্ধ শিল্প |
| B. | কাতলা | II. | পক্ষীপালন বা পল্ট্রি |
| C. | লেগহর্ন | III. | মীনপালন বা ফিসারি |
| D. | জার্সি | IV. | মোমাছি পালন |

নিম্ন প্রদত্ত বিকল্পগুলি থেকে সঠিক উত্তর বেছে নাও:

1. A-I, B-II, C-III, D-IV
2. A-II, B-I, C-III, D-IV
3. A-IV, B-III, C-II, D-I
4. A-III, B-IV, C-I, D-II

Options :

485584145629. 1
485584145630. 2
485584145631. 3

485584145632. 4

Question Number : 24 Question Id : 48558436409 Question Type : MCQ Option Shuffling : No Is Question Mandatory : No Calculator : None Response Time : N.A Think Time : N.A Minimum Instruction Time : 0

Correct Marks : 5 Wrong Marks : 1

Question Key Details :

| Key | Value |
|---------------|-------|
| Comprehension | MCQ |

Which of the following microbe serves as an important biofertiliser in paddy field?

1. Cyanobacteria
2. *Rhizobium*
3. Mycorrhiza
4. *Bacillus thuringiensis*

Options :

485584145633. 1
485584145634. 2
485584145635. 3
485584145636. 4

Question Number : 24 Question Id : 48558436409 Question Type : MCQ Option Shuffling : No Is Question Mandatory : No Calculator : None Response Time : N.A Think Time : N.A Minimum Instruction Time : 0

Correct Marks : 5 Wrong Marks : 1

Question Key Details :

| Key | Value |
|---------------|-------|
| Comprehension | MCQ |

নিচের কোন অণুজীবটি (মাইক্রোব) ধান ক্ষেতে এক গুরুত্বপূর্ণ জৈবসারের ভূমিকা পালন করে?

1. সায়েনোব্যাক্টেরিয়া
2. রাইজোবিয়াম
3. মাইকোরিঞ্জা
4. বেসিলাস থুরিংজিয়েনসিস

Options :

485584145633. 1
485584145634. 2
485584145635. 3
485584145636. 4

Question Number : 25 Question Id : 48558436410 Question Type : MCQ Option Shuffling : No Is Question Mandatory : No Calculator : None Response Time : N.A Think Time : N.A Minimum Instruction Time : 0

Correct Marks : 5 Wrong Marks : 1

Question Key Details :

| Key | Value |
|---------------|-------|
| Comprehension | MCQ |

Identify the correct statements with respect to microbes.

- A. "Toddy" the traditional drink obtained by fermenting sap of Palm tree.
- B. Swiss cheese's large holes are due to activity of *Saccharomyces cerevisiae*.
- C. "Penicillin" was discovered by Alexander Fleming.
- D. The Cyclosporin A, is produced by *Trichoderma polysporum*.

Choose the the correct answer from the options given below:

- 1. A, B and D only
- 2. A and B only
- 3. A, C, and D only
- 4. C and D only

Options :

- 485584145637. 1
- 485584145638. 2
- 485584145639. 3
- 485584145640. 4

Question Number : 25 Question Id : 48558436410 Question Type : MCQ Option Shuffling : No Is Question Mandatory : No Calculator : None Response Time : N.A Think Time : N.A Minimum Instruction Time : 0

Correct Marks : 5 Wrong Marks : 1

Question Key Details :

| Key | Value |
|---------------|-------|
| Comprehension | MCQ |

অণুজীব (মাইক্রোব) সম্বন্ধীয় শুদ্ধ বিবৃতিগুলো নিচের থেকে সনাক্ত কর।

- A. তাড়ি নামক পরম্পরাগত পানীয়টি আহরণ করা হয় তাল গাছের রসের গাঁজন (ফারমেন্টেশন) ঘটিয়ে
- B. সুইশ চিজের খাঁকি বড় বড় ছিদ্রগুলোর কারণ হচ্ছে স্যাকেরোমাইসিস সেরেভিসির ত্রিগ্ল্যাকলাপ
- C. অ্যালেকজান্ডার ফ্লেমিং পেনেসিলিন আবিষ্কার করেছিলেন
- D. ট্রাইকোডার্মা পলিস্পোরাম সাইক্লোস্পোরিন A উৎপন্ন করে

নিম্ন প্রদত্ত বিকল্পগুলি থেকে সঠিক উত্তর বেছে নাওঃ

- 1. কেবল A, B এবং D
- 2. কেবল A, B
- 3. কেবল A, C, এবং D
- 4. কেবল C এবং D

Options :

- 485584145637. 1
- 485584145638. 2

485584145639. 3

485584145640. 4

Question Number : 26 Question Id : 48558436411 Question Type : MCQ Option Shuffling : No Is Question Mandatory : No Calculator : None Response Time : N.A Think Time : N.A Minimum Instruction Time : 0

Correct Marks : 5 Wrong Marks : 1

Question Key Details :

| Key | Value |
|---------------|-------|
| Comprehension | MCQ |

Match List I with List II

| LIST I Organism | | LIST II Product | |
|--------------------|---------------------------------|--------------------|---------------|
| A. | <i>Streptococcus</i> | I. | Citric acid |
| B. | <i>Aspergillus niger</i> | II. | Streptokinase |
| C. | <i>Monascus purpureus</i> | III. | Ethanol |
| D. | <i>Saccharomyces cerevisiae</i> | IV. | Statin |

Choose the correct answer from the options given below:

1. A-II, B-I, C-IV, D-III

2. A-I, B-II, C-III, D-IV

3. A-II, B-I, C-III, D-IV

4. A-III, B-IV, C-I, D-II

Options :

485584145641. 1

485584145642. 2

485584145643. 3

485584145644. 4

Question Number : 26 Question Id : 48558436411 Question Type : MCQ Option Shuffling : No Is Question Mandatory : No Calculator : None Response Time : N.A Think Time : N.A Minimum Instruction Time : 0

Correct Marks : 5 Wrong Marks : 1

Question Key Details :

| Key | Value |
|---------------|-------|
| Comprehension | MCQ |

তালিকা I-র সঙ্গে তালিকা II-কে মেলাও

| LIST I জীব | | LIST II উৎপাদিত দ্রব্য | |
|---------------|-------------------------|---------------------------|------------------|
| A. | স্ট্রেপ্টোকোকাস | I. | সাইট্রিক অ্যাসিড |
| B. | অ্যাসপার্জিলাস নাইজার | II. | স্ট্রেপ্টোকাইনেজ |
| C. | মোনাস্কাস পারপিউরিয়াস | III. | ইথানল |
| D. | স্যাৰেৰোমাইসিস সেরেভিসি | IV. | স্ট্যাটিন |

নিম্ন প্রদত্ত বিকল্পগুলি থেকে সঠিক উত্তর বেছে নাও:

1. A-II, B-I, C-IV, D-III
2. A-I, B-II, C-III, D-IV
3. A-II, B-I, C-III, D-IV
4. A-III, B-IV, C-I, D-II

Options :

485584145641. 1
485584145642. 2
485584145643. 3
485584145644. 4

Question Number : 27 Question Id : 48558436412 Question Type : MCQ Option Shuffling : No Is Question Mandatory : No Calculator : None Response Time : N.A Think Time : N.A Minimum Instruction Time : 0

Correct Marks : 5 Wrong Marks : 1

Question Key Details :

| Key | Value |
|---------------|-------|
| Comprehension | MCQ |

Which of the following is not a part of downstream processing?

1. Separation
2. Purification
3. Quality control
4. Biosynthesis

Options :

485584145645. 1
485584145646. 2
485584145647. 3
485584145648. 4

Question Number : 27 Question Id : 48558436412 Question Type : MCQ Option Shuffling : No Is Question Mandatory : No Calculator : None Response Time : N.A Think Time : N.A Minimum Instruction Time : 0

Correct Marks : 5 Wrong Marks : 1

Question Key Details :

| Key | Value |
|---------------|-------|
| Comprehension | MCQ |

নিচের কোনটি অধোমুখী সংসাধন (ডাউনস্ট্রিম প্রসেসিং) প্রক্রিয়ার অংশ নয়?

1. পৃথকীকরণ
2. পরিশোধন বা শুদ্ধিকরণ
3. গুণগত মান নিয়ন্ত্রণ
4. জৈবসংশ্লেষণ

Options :

485584145645. 1
485584145646. 2
485584145647. 3
485584145648. 4

Question Number : 28 Question Id : 48558436413 Question Type : MCQ Option Shuffling : No Is Question Mandatory : No Calculator : None Response Time : N.A Think Time : N.A Minimum Instruction Time : 0

Correct Marks : 5 Wrong Marks : 1

Question Key Details :

| Key | Value |
|---------------|-------|
| Comprehension | MCQ |

Which was the first restriction endonuclease discovered?

1. *EcoRI*
2. *BamHI*
3. *Hind II*
4. *Pst I*

Options :

485584145649. 1
485584145650. 2
485584145651. 3
485584145652. 4

Question Number : 28 Question Id : 48558436413 Question Type : MCQ Option Shuffling : No Is Question Mandatory : No Calculator : None Response Time : N.A Think Time : N.A Minimum Instruction Time : 0

Correct Marks : 5 Wrong Marks : 1

Question Key Details :

| Key | Value |
|---------------|-------|
| Comprehension | MCQ |

সর্বপ্রথম আবিষ্কৃত রেস্ট্রিকশ্যান বা বিদারণ এনজাইমগুলির কোনটি কি?

1. *EcoRI*
2. *BamHI*
3. *Hind II*
4. *Pst I*

Options :

485584145649. 1
485584145650. 2
485584145651. 3
485584145652. 4

Question Number : 29 Question Id : 48558436414 Question Type : MCQ Option Shuffling : No Is Question Mandatory : No Calculator : None Response Time : N.A Think Time : N.A Minimum Instruction Time : 0

Correct Marks : 5 Wrong Marks : 1

Question Key Details :

| Key | Value |
|---------------|-------|
| Comprehension | MCQ |

The correct sequence of steps to obtain gene of interest from pool of DNA is:

- A. Cutting of DNA using restriction endonuclease.
- B. Viewing the ethidium bromide stained gel under UV light.
- C. Loading of DNA in wells.
- D. Cutting and extraction of DNA piece from gel.
- E. Separation of DNA fragments according to their molecular size.

Choose the correct answer from the options given below:

1. A, C, E, B, D
2. A, D, C, B, E
3. E, D, B, C, A
4. D, E, C, A, B

Options :

485584145653. 1
485584145654. 2
485584145655. 3
485584145656. 4

Question Number : 29 Question Id : 48558436414 Question Type : MCQ Option Shuffling : No Is Question Mandatory : No Calculator : None Response Time : N.A Think Time : N.A Minimum Instruction Time : 0

Correct Marks : 5 Wrong Marks : 1

Question Key Details :

| Key | Value |
|---------------|-------|
| Comprehension | MCQ |

একটা DNA গুচ্ছ থেকে ঈঙ্গিত জিন একটা আহরণ করা পদ্ধতির সঠিক ক্রমটি হলো:

- A. রেস্ট্রিকশ্যন বা বিদারণ এন্ডোনিউক্লিয়েজ দ্বারা DNA-র ছেদন
- B. অতিবেগুনি রশ্মির মাধ্যমে ইথিডিয়াম ব্রোমাইডের দ্বারা রঞ্জিত জেলের (gel) দর্শন
- C. DNA গুলোকে কূপে স্থাপন
- D. জেল থেকে DNA টুকরার ছেদন এবং নিষ্কাষণ
- E. আণবিক আকার অনুযায়ী DNA খণ্ডগুলোর পৃথকীকরণ

নিম্ন প্রদত্ত বিকল্পগুলি থেকে সঠিক উত্তর বেছে নাও:

1. A, C, E, B, D

2. A, D, C, B, E

3. E, D, B, C, A

4. D, E, C, A, B

Options :

- 485584145653. 1
- 485584145654. 2
- 485584145655. 3
- 485584145656. 4

Question Number : 30 Question Id : 48558436415 Question Type : MCQ Option Shuffling : No Is Question Mandatory : No Calculator : None Response Time : N.A Think Time : N.A Minimum Instruction Time : 0

Correct Marks : 5 Wrong Marks : 1

Question Key Details :

| Key | Value |
|---------------|-------|
| Comprehension | MCQ |

Over 95% of all existing transgenic animals are:

- 1. Mice
- 2. Goat
- 3. Rabbit
- 4. Pig

Options :

- 485584145657. 1
- 485584145658. 2
- 485584145659. 3
- 485584145660. 4

Question Number : 30 Question Id : 48558436415 Question Type : MCQ Option Shuffling : No Is Question Mandatory : No Calculator : None Response Time : N.A Think Time : N.A Minimum Instruction Time : 0

Correct Marks : 5 Wrong Marks : 1

Question Key Details :

| Key | Value |
|-----|-------|
|-----|-------|

অস্তিত্ব বজায় রাখা সকল ট্রান্সজেনিক (জিনীয়ভাবে রূপান্তরিত) প্রাণীর ৩৫%র বেশি হচ্ছেঃ

1. ইদুর বা মূষিকগণ
2. ছাগল
3. খরগোশ
4. শূকর

Options :

485584145657. 1
485584145658. 2
485584145659. 3
485584145660. 4

Question Number : 31 Question Id : 48558436416 Question Type : MCQ Option Shuffling : No Is Question Mandatory : No Calculator : None Response Time : N.A Think Time : N.A Minimum Instruction Time : 0

Correct Marks : 5 Wrong Marks : 1

Question Key Details :

| Key | Value |
|---------------|-------|
| Comprehension | MCQ |

A novel strategy to prevent infestation of roots of tobacco plant with the nematode *Meloidogyne incognita* is :

1. DNA interference
2. DNA-RNA interference
3. RNA interference
4. RNA-Protein interference

Options :

485584145661. 1
485584145662. 2
485584145663. 3
485584145664. 4

Question Number : 31 Question Id : 48558436416 Question Type : MCQ Option Shuffling : No Is Question Mandatory : No Calculator : None Response Time : N.A Think Time : N.A Minimum Instruction Time : 0

Correct Marks : 5 Wrong Marks : 1

Question Key Details :

| Key | Value |
|---------------|-------|
| Comprehension | MCQ |

মেলয়ডিজাইন ইনকগনিশিয়া নামক গোলকুমির দ্বারা তামাক গাছের শেকড় আক্রান্ত যাতে নাহয় তার জন্য গ্রহণ করা অভিনব পদ্ধতি হচ্ছেঃ

1. DNA সমারোপণ (interference)
2. DNA-RNA সমারোপণ (interference)
3. RNA সমারোপণ (interference)
4. RNA-প্রোটিন সমারোপণ (interference)

Options :

485584145661. 1
485584145662. 2
485584145663. 3
485584145664. 4

Question Number : 32 Question Id : 48558436417 Question Type : MCQ Option Shuffling : No Is Question Mandatory : No Calculator : None Response Time : N.A Think Time : N.A Minimum Instruction Time : 0

Correct Marks : 5 Wrong Marks : 1

Question Key Details :

| Key | Value |
|---------------|-------|
| Comprehension | MCQ |

Match List I with List II

| LIST I | | LIST II | |
|--------|-------------------------------|---------|---|
| A. | <i>Bacillus thuringiensis</i> | I. | Synthetic Human Insulin |
| B. | <i>Agrobacterium</i> | II. | ADA gene therapy |
| C. | <i>E. Coli</i> | III. | Cry gene |
| D. | Retroviral Vector | IV. | Vector carrying nematode-specific genes |

Choose the correct answer from the options given below:

1. A-III, B-IV, C-I, D-II
2. A-II, B-I, C-III, D-IV
3. A-I, B-III, C-IV, D-II
4. A-IV, B-II, C-I, D-III

Options :

485584145665. 1
485584145666. 2
485584145667. 3
485584145668. 4

Question Number : 32 Question Id : 48558436417 Question Type : MCQ Option Shuffling : No Is Question Mandatory : No Calculator : None Response Time : N.A Think Time : N.A Minimum Instruction Time : 0

Correct Marks : 5 Wrong Marks : 1

Question Key Details :

| Key | Value |
|---------------|-------|
| Comprehension | MCQ |

তালিকা I-র সঙ্গে তালিকা II-কে মেলাও

| LIST I | | LIST II | |
|--------|-------------------------|---------|------------------|
| A. | বেসিনাস খুরিনজিয়েনসিস | I. | সাইট্রিক অ্যাসিড |
| B. | প্রোগ্রোব্যাক্টেরিয়াম | II. | স্ট্রিপ্টোকাইনেজ |
| C. | ই-কোলাই | III. | ইথানল |
| D. | রেট্রোভাইরাসজাতীয় বাহক | IV. | স্ট্যাটিন |

নিম্ন প্রদত্ত বিকল্পগুলি থেকে সঠিক উত্তর বেছে নাওঃ

1. A-III, B-IV, C-I, D-II

2. A-II, B-I, C-III, D-IV

3. A-I, B-III, C-IV, D-II

4. A-IV, B-II, C-I, D-III

Options :

485584145665. 1

485584145666. 2

485584145667. 3

485584145668. 4

Question Number : 33 Question Id : 48558436418 Question Type : MCQ Option Shuffling : No Is Question Mandatory : No Calculator : None Response Time : N.A Think Time : N.A Minimum Instruction Time : 0

Correct Marks : 5 Wrong Marks : 1

Question Key Details :

| Key | Value |
|---------------|-------|
| Comprehension | MCQ |

Identify the commensalism from the following associations:

1. Fungi and roots of higher plants.

2. Cuckoo and crow during breeding season

3. Fig species and wasp

4. Sea anemone and clown fish

Options :

485584145669. 1

485584145670. 2

485584145671. 3

485584145672. 4

Question Number : 33 Question Id : 48558436418 Question Type : MCQ Option Shuffling : No Is Question Mandatory : No Calculator : None Response Time : N.A Think Time : N.A Minimum Instruction Time : 0

Correct Marks : 5 Wrong Marks : 1

Question Key Details :

| Key | Value |
|---------------|-------|
| Comprehension | MCQ |

নিচে দেওয়া জোটগুলো থেকে সহভোজিতা বা কমনসালিঞ্জমের উদাহরণটি চিহ্নিত করঃ

1. ছত্রাক এবং উচ্চস্তরের উদ্ভিদের শিকড়
2. প্রজননকালে কাক ও কোকিল
3. ডুমুর প্রজাতি এবং ভিমরুল বা বোলতা
4. সাগরীয় এনিমোন এবং ক্লাউন মাছ

Options :

485584145669. 1
485584145670. 2
485584145671. 3
485584145672. 4

Question Number : 34 Question Id : 48558436419 Question Type : MCQ Option Shuffling : No Is Question Mandatory : No Calculator : None Response Time : N.A Think Time : N.A Minimum Instruction Time : 0

Correct Marks : 5 Wrong Marks : 1

Question Key Details :

| Key | Value |
|---------------|-------|
| Comprehension | MCQ |

Select the organisms that can tolerate wide range of temperatures:

1. Eurythermals
2. Stenothermals
3. Conformers
4. Osmoregulators

Options :

485584145673. 1
485584145674. 2
485584145675. 3
485584145676. 4

Question Number : 34 Question Id : 48558436419 Question Type : MCQ Option Shuffling : No Is Question Mandatory : No Calculator : None Response Time : N.A Think Time : N.A Minimum Instruction Time : 0

Correct Marks : 5 Wrong Marks : 1

Question Key Details :

| Key | Value |
|---------------|-------|
| Comprehension | MCQ |

উষ্ণতার তারতম্যের ব্যাপক পরিসর সহ্য করতে পারা জীবের প্রকারটি চিহ্নিত করঃ

1. ইউরিথার্মাল বা পৃথুতাপী
2. স্টেনোথার্মাল বা তনুতাপী
3. কনফার্মার বা অনুতাপী
4. ওসমোরেগুলেটর বা আসৃতি-নিয়ন্ত্রক

Options :

485584145673. 1
485584145674. 2
485584145675. 3
485584145676. 4

Question Number : 35 Question Id : 48558436420 Question Type : MCQ Option Shuffling : No Is Question Mandatory : No Calculator : None Response Time : N.A Think Time : N.A Minimum Instruction Time : 0

Correct Marks : 5 Wrong Marks : 1

Question Key Details :

| Key | Value |
|---------------|-------|
| Comprehension | MCQ |

The rate of decomposition is controlled by:

1. Chemical composition of detritus only
2. Climatic factors only
3. Both chemical composition of detritus and climatic factors
4. Atmospheric pressure

Options :

485584145677. 1
485584145678. 2
485584145679. 3
485584145680. 4

Question Number : 35 Question Id : 48558436420 Question Type : MCQ Option Shuffling : No Is Question Mandatory : No Calculator : None Response Time : N.A Think Time : N.A Minimum Instruction Time : 0

Correct Marks : 5 Wrong Marks : 1

Question Key Details :

| Key | Value |
|---------------|-------|
| Comprehension | MCQ |

পচন বা অপঘটন বা বিয়োজনের হার নিয়ন্ত্রণ করেঃ

1. কেবল অবশেষ বা ডেট্রিটাস-এর রাসায়নিক সংযুতি
2. কেবল জলবায়ু সম্বন্ধীয় কারক
3. অবশেষ বা ডেট্রিটাসের রাসায়নিক সংযুতি এবং জলবায়ু সম্বন্ধীয় কারক উভয়ই
4. বায়ুমণ্ডলীয় চাপ

Options :

485584145677. 1
485584145678. 2
485584145679. 3
485584145680. 4

Question Number : 36 Question Id : 48558436421 Question Type : MCQ Option Shuffling : No Is Question Mandatory : No Calculator : None Response Time : N.A Think Time : N.A Minimum Instruction Time : 0

Correct Marks : 5 Wrong Marks : 1

Question Key Details :

| Key | Value |
|---------------|-------|
| Comprehension | MCQ |

The Net Primary Productivity (NPP) is :

1. Gross Primary Productivity – Respiration losses
2. Gross Primary Productivity + Respiration losses
3. Gross Primary Productivity \times Respiration losses
4. Respiration losses – Gross Primary Productivity

Options :

485584145681. 1
485584145682. 2
485584145683. 3
485584145684. 4

Question Number : 36 Question Id : 48558436421 Question Type : MCQ Option Shuffling : No Is Question Mandatory : No Calculator : None Response Time : N.A Think Time : N.A Minimum Instruction Time : 0

Correct Marks : 5 Wrong Marks : 1

Question Key Details :

| Key | Value |
|---------------|-------|
| Comprehension | MCQ |

শুদ্ধ বা নেট প্রাথমিক উৎপাদিতা হচ্ছেঃ

1. মোট প্রাথমিক উৎপাদনশীলতা - স্বসন
2. মোট প্রাথমিক উৎপাদনশীলতা + স্বসন
3. মোট প্রাথমিক উৎপাদনশীলতা x স্বসন
4. স্বসন - মোট প্রাথমিক উৎপাদনশীলতা

Options :

485584145681. 1
485584145682. 2
485584145683. 3
485584145684. 4

Question Number : 37 Question Id : 48558436422 Question Type : MCQ Option Shuffling : No Is Question Mandatory : No Calculator : None Response Time : N.A Think Time : N.A Minimum Instruction Time : 0

Correct Marks : 5 Wrong Marks : 1

Question Key Details :

| Key | Value |
|---------------|-------|
| Comprehension | MCQ |

Which of the following country has the highest biodiversity?

1. Brazil
2. Zimbabwe
3. Russia
4. India

Options :

485584145685. 1
485584145686. 2
485584145687. 3
485584145688. 4

Question Number : 37 Question Id : 48558436422 Question Type : MCQ Option Shuffling : No Is Question Mandatory : No Calculator : None Response Time : N.A Think Time : N.A Minimum Instruction Time : 0

Correct Marks : 5 Wrong Marks : 1

Question Key Details :

| Key | Value |
|---------------|-------|
| Comprehension | MCQ |

নিচে থাকা কোন দেশটিতে সর্বাধিক জৈববৈচিত্র্য দেখা যায়

1. ব্রাজিল
2. জিম্বাবোয়ে
3. রাশিয়া
4. ভারতবর্ষ

Options :

485584145685. 1
485584145686. 2
485584145687. 3
485584145688. 4

Question Number : 38 Question Id : 48558436423 Question Type : MCQ Option Shuffling : No Is Question Mandatory : No Calculator : None Response Time : N.A Think Time : N.A Minimum Instruction Time : 0

Correct Marks : 5 Wrong Marks : 1

Question Key Details :

| Key | Value |
|---------------|-------|
| Comprehension | MCQ |

Which of the following species has become extinct due to over exploitation by humans?

1. *Clarias gariepinus*
2. Stellers's sea cow
3. *Lantana*
4. *Parthenium*

Options :

485584145689. 1
485584145690. 2
485584145691. 3
485584145692. 4

Question Number : 38 Question Id : 48558436423 Question Type : MCQ Option Shuffling : No Is Question Mandatory : No Calculator : None Response Time : N.A Think Time : N.A Minimum Instruction Time : 0

Correct Marks : 5 Wrong Marks : 1

Question Key Details :

| Key | Value |
|---------------|-------|
| Comprehension | MCQ |

মানুষের উৎপীড়নের জন্য নিচের কোন জীবটি বিলুপ্ত হয়ে গেছে?

1. ক্রেটরিয়ানস গেরিয়েপিনাস
2. সাগরীয় গরু (স্টেলার্স সি কাউ)
3. লেন্টানা
4. পাথেনিয়াম

Options :

485584145689. 1
485584145690. 2
485584145691. 3
485584145692. 4

Question Number : 39 Question Id : 48558436424 Question Type : MCQ Option Shuffling : No Is Question Mandatory : No Calculator : None Response Time : N.A Think Time : N.A Minimum Instruction Time : 0

Correct Marks : 5 Wrong Marks : 1

Question Key Details :

| Key | Value |
|---------------|-------|
| Comprehension | MCQ |

Salts are drawn to the surface of the soil by:

1. Over cultivation
2. Deforestation
3. Water logging
4. Unrestricted grazing

Options :

485584145693. 1
485584145694. 2
485584145695. 3
485584145696. 4

Question Number : 39 Question Id : 48558436424 Question Type : MCQ Option Shuffling : No Is Question Mandatory : No Calculator : None Response Time : N.A Think Time : N.A Minimum Instruction Time : 0

Correct Marks : 5 Wrong Marks : 1

Question Key Details :

| Key | Value |
|---------------|-------|
| Comprehension | MCQ |

নবণ ভূপৃষ্ঠের উপরিভাগে চলে আসার কারণ হলোঃ

1. অত্যধিক চাষবাস
2. অরণ্যবিনাশ
3. জলমগ্নতা
4. অবাধ পশুচারণ

Options :

485584145693. 1
485584145694. 2
485584145695. 3
485584145696. 4

Question Number : 40 Question Id : 48558436425 Question Type : MCQ Option Shuffling : No Is Question Mandatory : No Calculator : None Response Time : N.A Think Time : N.A Minimum Instruction Time : 0

Correct Marks : 5 Wrong Marks : 1

Question Key Details :

| Key | Value |
|---------------|-------|
| Comprehension | MCQ |

World's most problematic aquatic weed is:

1. Free floating algae
2. *Vallisneria*
3. *Eichhornia crassipes*
4. *Chara*

Options :

485584145697. 1
485584145698. 2
485584145699. 3
485584145700. 4

Question Number : 40 Question Id : 48558436425 Question Type : MCQ Option Shuffling : No Is Question Mandatory : No Calculator : None Response Time : N.A Think Time : N.A Minimum Instruction Time : 0

Correct Marks : 5 Wrong Marks : 1

Question Key Details :

| Key | Value |
|---------------|-------|
| Comprehension | MCQ |

পৃথিবীর সর্বাধিক সমস্যাসৃষ্টিকারী জনজ অপতৃণ বা আগাছাটি হলোঃ

1. মুক্তভাবে ভেসে থাকা শৈবাল
2. ভেলিসনেরিয়া
3. এইকর্নিয়া ক্রেসিপেস বা কচুরিপানা
4. কেরা

Options :

485584145697. 1
485584145698. 2
485584145699. 3
485584145700. 4

Sub-Section Number :

2

Sub-Section Id :

4855842691

Question Shuffling Allowed :

No

Is Section Default? :

null

Question Number : 41 Question Id : 48558436426 Question Type : MCQ Option Shuffling : No Is Question Mandatory : No Calculator : None Response Time : N.A Think Time : N.A Minimum Instruction Time : 0

Correct Marks : 5 Wrong Marks : 1

Question Key Details :

| Key | Value |
|---------------|-------|
| Comprehension | Compl |

Read the given paragraph and answer the question:

Humans have 23 pairs of chromosomes. 22 pairs are exactly same in both males and females; these are the autosomes. A pair of X-chromosome are present in the female, whereas the presence of an X and Y chromosome are determinant of the male characteristic.

A number of disorders in human beings have been found to be associated with the inheritance of changed or altered genes or chromosomes. Broadly, genetic disorder may be grouped into two categories-Mendelian disorders and Chromosomal disorders.

What is the probability of having a daughter to a couple expecting their first child?

1. Nil
2. 25%
3. 50%
4. 100%

Options :

485584145701. 1
485584145702. 2
485584145703. 3

Question Number : 41 Question Id : 48558436426 Question Type : MCQ Option Shuffling : No Is Question Mandatory : No Calculator : None Response Time : N.A Think Time : N.A Minimum Instruction Time : 0

Correct Marks : 5 Wrong Marks : 1

Question Key Details :

| Key | Value |
|---------------|-------|
| Comprehension | Comp1 |

নিচের অনুচ্ছেদটি পড়ে নিম্নোক্ত প্রশ্নগুলির উত্তর দাওঃ

মানবদেহে 23 জোড়া ক্রোমোজোম থাকে। যার 22 জোড়া পুরুষ এবং মহিলা উভয়ের ক্ষেত্রেই সম্পূর্ণ একই। এগুলো হচ্ছে অলিঙ্গসূত্র বা অটোজোম। অবশিষ্ট ক্রোমোজোম জোড়াটির ক্ষেত্রে নারীর শরীরে থাকে একজোড়া X ক্রোমোজোম। অন্যদিকে একটি X এবং আরেকটি Y ক্রোমোজোমের জোড়া পুরুষের দেহে থাকে যা পুরুষ চরিত্র বা বৈশিষ্ট্য নির্ণয় করে।

মানবদেহে পাওয়া বিসংগতিগুলো আসলে পরিবর্তিত তথা বদলে যাওয়া জিন কিংবা ক্রোমোজোমের বংশানুক্রমিক প্রবাহের সঙ্গে জড়িত। জিনীয় (জেনেটিক) বিসংগতিগুলোকে মোটামুটি দুটি ভাগে ভাগ করা যেতে পারে-- মেন্ডেলীয় বিসংগতি এবং ক্রোমোজোমীয় বিসংগতি।

প্রথম সন্তানসন্তবা এক দম্পতির কন্যাসন্তান হওয়ার সম্ভাবনা কত?

1. শূন্য
2. 25%
3. 50%
4. 100%

Options :

485584145701. 1
485584145702. 2
485584145703. 3
485584145704. 4

Question Number : 42 Question Id : 48558436427 Question Type : MCQ Option Shuffling : No Is Question Mandatory : No Calculator : None Response Time : N.A Think Time : N.A Minimum Instruction Time : 0

Correct Marks : 5 Wrong Marks : 1

Question Key Details :

| Key | Value |
|---------------|-------|
| Comprehension | Comp1 |

Read the given paragraph and answer the question:

Humans have 23 pairs of chromosomes. 22 pairs are exactly same in both males and females; these are the autosomes. A pair of X-chromosome are present in the female, whereas the presence of an X and Y chromosome are determinant of the male characteristic.

A number of disorders in human beings have been found to be associated with the inheritance of changed or altered genes or chromosomes. Broadly, genetic disorder may be grouped into two categories-Mendelian disorders and Chromosomal disorders.

A disorder caused due to absence of one of the 'X' chromosome is -

1. Turner's Syndrome
2. Down's Syndrome
3. Klinefelter's Syndrome
4. Thalassemia

Options :

485584145705. 1
485584145706. 2
485584145707. 3
485584145708. 4

Question Number : 42 Question Id : 48558436427 Question Type : MCQ Option Shuffling : No Is Question Mandatory : No Calculator : None Response Time : N.A Think Time : N.A Minimum Instruction Time : 0

Correct Marks : 5 Wrong Marks : 1

Question Key Details :

| Key | Value |
|---------------|-------|
| Comprehension | Comp1 |

নিচের অনুচ্ছেদটি পড়ে নিম্নোক্ত প্রশ্নগুলির উত্তর দাওঃ

মানবদেহে 23 জোড়া ক্রোমোজোম থাকে। যার 22 জোড়া পুরুষ এবং মহিলা উভয়ের ক্ষেত্রেই সম্পূর্ণ একই। এগুলো হচ্ছে অলিঙ্গসূত্র বা অটোজোম। অবশিষ্ট ক্রোমোজোম জোড়াটির ক্ষেত্রে নারীর শরীরে থাকে একজোড়া X ক্রোমোজোম। অন্যদিকে একটি X এবং আরেকটি Y ক্রোমোজোমের জোড়া পুরুষের দেহে থাকে যা পুরুষ চরিত্র বা বৈশিষ্ট্য নির্ণয় করে।

মানবদেহে পাওয়া বিসংগতিগুলো আসলে পরিবর্তিত তথা বদলে যাওয়া জিন কিংবা ক্রোমোজোমের বংশানুক্রমিক প্রবাহের সঙ্গে জড়িত। জিনীয় (জেনেটিক) বিসংগতিগুলোকে মোটামুটি দুটি ভাগে ভাগ করা যেতে পারে-- মেন্ডেলীয় বিসংগতি এবং ক্রোমোজোমীয় বিসংগতি।

একটি X ক্রোমোজোমের অভাবে দেখা দেওয়া বিসংগতিটি হলোঃ

1. টার্নারের সিন্ড্রোম
2. ডাউনের সিন্ড্রোম
3. ক্লাইনফেল্টারের সিন্ড্রোম
4. থ্যালাসেমিয়া

Options :

485584145705. 1
485584145706. 2
485584145707. 3
485584145708. 4

Question Number : 43 Question Id : 48558436428 Question Type : MCQ Option Shuffling : No Is Question Mandatory : No Calculator : None Response Time : N.A Think Time : N.A Minimum Instruction Time : 0

Correct Marks : 5 Wrong Marks : 1

Question Key Details :

| Key | Value |
|---------------|-------|
| Comprehension | Comp1 |

Read the given paragraph and answer the question:

Humans have 23 pairs of chromosomes. 22 pairs are exactly same in both males and females; these are the autosomes. A pair of X-chromosome are present in the female, whereas the presence of an X and Y chromosome are determinant of the male characteristic.

A number of disorders in human beings have been found to be associated with the inheritance of changed or altered genes or chromosomes. Broadly, genetic disorder may be grouped into two categories-Mendelian disorders and Chromosomal disorders.

A haemophilic man marries a normal woman. What is the possibility that their child have haemophilia?

1. 75%
2. 25%
3. 0%
4. 50%

Options :

485584145709. 1
485584145710. 2
485584145711. 3
485584145712. 4

Question Number : 43 Question Id : 48558436428 Question Type : MCQ Option Shuffling : No Is Question Mandatory : No Calculator : None Response Time : N.A Think Time : N.A Minimum Instruction Time : 0

Correct Marks : 5 Wrong Marks : 1

Question Key Details :

| Key | Value |
|---------------|-------|
| Comprehension | Comp1 |

নিচের অনুচ্ছেদটি পড়ে নিম্নোক্ত প্রশ্নগুলির উত্তর দাও:

মানবদেহে 23 জোড়া ক্রোমোজোম থাকে। যার 22 জোড়া পুরুষ এবং মহিলা উভয়ের ক্ষেত্রেই সম্পূর্ণ একই। এগুলো হচ্ছে অলিঙ্গসূত্র বা অটোজোম। অবশিষ্ট ক্রোমোজোম জোড়াটির ক্ষেত্রে নারীর শরীরে থাকে একজোড়া X ক্রোমোজোম। অন্যদিকে একটি X এবং আরেকটি Y ক্রোমোজোমের জোড়া পুরুষের দেহে থাকে যা পুরুষ চরিত্র বা বৈশিষ্ট্য নির্ণয় করে।

মানবদেহে পাওয়া বিসংগতিগুলো আসলে পরিবর্তিত তথা বদলে যাওয়া জিন কিংবা ক্রোমোজোমের বংশানুক্রমিক প্রবাহের সঙ্গে জড়িত। জিনীয় (জেনেটিক) বিসংগতিগুলোকে মোটামুটি দুটি ভাগে ভাগ করা যেতে পারে-- মেন্ডেলীয় বিসংগতি এবং ক্রোমোজোমীয় বিসংগতি।

হিমোফিলিয়া বা রক্তপ্রতীতে আক্রান্ত একজন পুরুষ এক স্বাভাবিক স্বাস্থ্যের মহিলাকে বিয়ে করলেন। তাঁদের সন্তান হিমোফিলিয়ায় আক্রান্ত হওয়ার সম্ভাবনা কত?

1. 75%
2. 25%
3. 0%
4. 50%

Options :

485584145709. 1
485584145710. 2
485584145711. 3
485584145712. 4

Question Number : 44 Question Id : 48558436429 Question Type : MCQ Option Shuffling : No Is Question Mandatory : No Calculator : None Response Time : N.A Think Time : N.A Minimum Instruction Time : 0

Correct Marks : 5 Wrong Marks : 1

Question Key Details :

| Key | Value |
|---------------|-------|
| Comprehension | Comp1 |

Read the given paragraph and answer the question:

Humans have 23 pairs of chromosomes. 22 pairs are exactly same in both males and females; these are the autosomes. A pair of X-chromosome are present in the female, whereas the presence of an X and Y chromosome are determinant of the male characteristic.

A number of disorders in human beings have been found to be associated with the inheritance of changed or altered genes or chromosomes. Broadly, genetic disorder may be grouped into two categories-Mendelian disorders and Chromosomal disorders.

Which of the following is an example of a sex linked disease?

1. Ascariasis
2. Colour blindness
3. Thalassemia
4. Phenylketonuria

Options :

485584145713. 1
485584145714. 2
485584145715. 3
485584145716. 4

Question Number : 44 Question Id : 48558436429 Question Type : MCQ Option Shuffling : No Is Question Mandatory : No Calculator : None Response Time : N.A Think Time : N.A Minimum Instruction Time : 0

Correct Marks : 5 Wrong Marks : 1

Question Key Details :

| Key | Value |
|---------------|-------|
| Comprehension | Comp1 |

নিচের অনুচ্ছেদটি পড়ে নিম্নোক্ত প্রশ্নগুলির উত্তর দাও:

মানবদেহে 23 জোড়া ক্রোমোজোম থাকে। যার 22 জোড়া পুরুষ এবং মহিলা উভয়ের ক্ষেত্রেই সম্পূর্ণ একই। এগুলো হচ্ছে অলিঙ্গসূত্র বা অটোজোম। অবশিষ্ট ক্রোমোজোম জোড়াটির ক্ষেত্রে নারীর শরীরে থাকে একজোড়া X ক্রোমোজোম। অন্যদিকে একটি X এবং আরেকটি Y ক্রোমোজোমের জোড়া পুরুষের দেহে থাকে যা পুরুষ চরিত্র বা বৈশিষ্ট্য নির্ণয় করে।

মানবদেহে পাওয়া বিসংগতিগুলো আসলে পরিবর্তিত তথা বদলে যাওয়া জিন কিংবা ক্রোমোজোমের বংশানুক্রমিক প্রবাহের সঙ্গে জড়িত। জিনীয় (জেনেটিক) বিসংগতিগুলোকে মোটামুটি দুটি ভাগে ভাগ করা যেতে পারে-- মেন্ডেলীয় বিসংগতি এবং ক্রোমোজোমীয় বিসংগতি।

নিচের কোনটি যৌনতার সঙ্গে জড়িত রোগের উদাহরণ?

1. এক্কেরিয়াসিস
2. বর্ণাঙ্কতা
3. থ্যালাসেমিয়া
4. ফিনাইলকিটোনিউরিয়া

Options :

485584145713. 1
485584145714. 2
485584145715. 3
485584145716. 4

Question Number : 45 Question Id : 48558436430 Question Type : MCQ Option Shuffling : No Is Question Mandatory : No Calculator : None Response Time : N.A Think Time : N.A Minimum Instruction Time : 0

Correct Marks : 5 Wrong Marks : 1

Question Key Details :

| Key | Value |
|---------------|-------|
| Comprehension | Comp1 |

Read the given paragraph and answer the question:

Humans have 23 pairs of chromosomes. 22 pairs are exactly same in both males and females; these are the autosomes. A pair of X-chromosome are present in the female, whereas the presence of an X and Y chromosome are determinant of the male characteristic.

A number of disorders in human beings have been found to be associated with the inheritance of changed or altered genes or chromosomes. Broadly, genetic disorder may be grouped into two categories-Mendelian disorders and Chromosomal disorders.

A colour blind man marries a carrier woman. Choose the possible progeny outcome.

1. All sons are born colourblind, while 50% the daughter born will be normal.
2. All children (sons and daughters) are born colour blind.
3. All daughters are normal whereas 50% of the sons born will be colour blind.
4. 50% of daughters and 50% of sons born will be colour blind.

Options :

485584145717. 1

485584145718. 2

485584145719. 3

485584145720. 4

Question Number : 45 Question Id : 48558436430 Question Type : MCQ Option Shuffling : No Is Question Mandatory : No Calculator : None Response Time : N.A Think Time : N.A Minimum Instruction Time : 0

Correct Marks : 5 Wrong Marks : 1

Question Key Details :

| Key | Value |
|---------------|-------|
| Comprehension | Comp1 |

নিচের অনুচ্ছেদটি পড়ে নিম্নোক্ত প্রশ্নগুলির উত্তর দাওঃ

মানবদেহে 23 জোড়া ক্রোমোজোম থাকে। যার 22 জোড়া পুরুষ এবং মহিলা উভয়ের ক্ষেত্রেই সম্পূর্ণ একই। এগুলো হচ্ছে অলিঙ্গসূত্র বা অটোজোম। অবশিষ্ট ক্রোমোজোম জোড়াটির ক্ষেত্রে নারীর শরীরে থাকে একজোড়া X ক্রোমোজোম। অন্যদিকে একটি X এবং আরেকটি Y ক্রোমোজোমের জোড়া পুরুষের দেহে থাকে যা পুরুষ চরিত্র বা বৈশিষ্ট্য নির্ণয় করে।

মানবদেহে পাওয়া বিসংগতিগুলো আসলে পরিবর্তিত তথা বদলে যাওয়া জিন কিংবা ক্রোমোজোমের বংশানুক্রমিক প্রবাহের সঙ্গে জড়িত। জিনীয় (জেনেটিক) বিসংগতিগুলোকে মোটামুটি দুটি ভাগে ভাগ করা যেতে পারে-- মেন্ডেলীয় বিসংগতি এবং ক্রোমোজোমীয় বিসংগতি।

বর্ণাঙ্কিতায় আক্রান্ত একজন পুরুষ এক বাহক মহিলাকে বিয়ে করলেন। নিচের কোনটি সন্তান প্রজন্মের সম্ভাব্য পরিণতি হতে পারে?

1. দম্পতিটির সকল পুত্রসন্তান বর্ণাঙ্কিত হয়ে জন্ম নেবে কিন্তু তাঁদের কন্যাসন্তান স্বাভাবিক ভাবে জন্ম নেবে।
2. দম্পতিটির সকল সন্তান (পুত্র কন্যা উভয়) বর্ণাঙ্কিত হয়ে জন্ম নেবে।
3. দম্পতিটির সকল কন্যাসন্তান স্বাভাবিক ভাবে জন্ম নেবে কিন্তু জন্ম নেওয়া পুত্রসন্তানদের 50% বর্ণাঙ্কিত হবে।
4. দম্পতিটির যত সংখ্যক কন্যাসন্তান জন্ম নেবে তার 50% এবং যত সংখ্যক পুত্রসন্তান জন্ম নেবে তারো 50% বর্ণাঙ্কিত হবে।

Options :

485584145717. 1
 485584145718. 2
 485584145719. 3
 485584145720. 4

Sub-Section Number :

3

Sub-Section Id :

4855842692

Question Shuffling Allowed :

No

Is Section Default? :

null

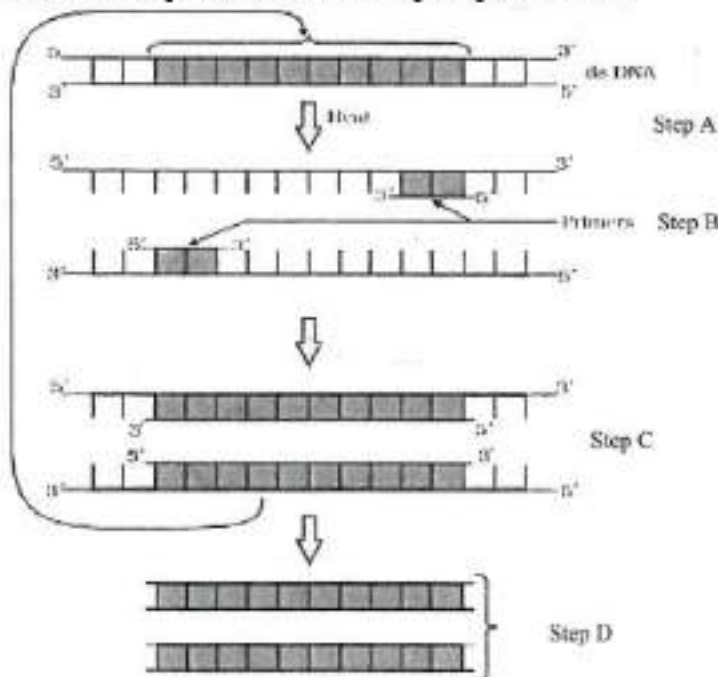
Question Number : 46 Question Id : 48558436431 Question Type : MCQ Option Shuffling : No Is Question Mandatory : No Calculator : None Response Time : N.A Think Time : N.A Minimum Instruction Time : 0

Correct Marks : 5 Wrong Marks : 1

Question Key Details :

| Key | Value |
|---------------|-------|
| Comprehension | Comp2 |

Answer the questions from the figure given below:



If the reaction starts with one molecule of DNA, the number of cycles required to produce one billion amplified products is:

1. 8 cycles
2. 16 cycles
3. 30 cycles
4. 25 cycles

Options :

485584145721. 1
485584145722. 2
485584145723. 3
485584145724. 4

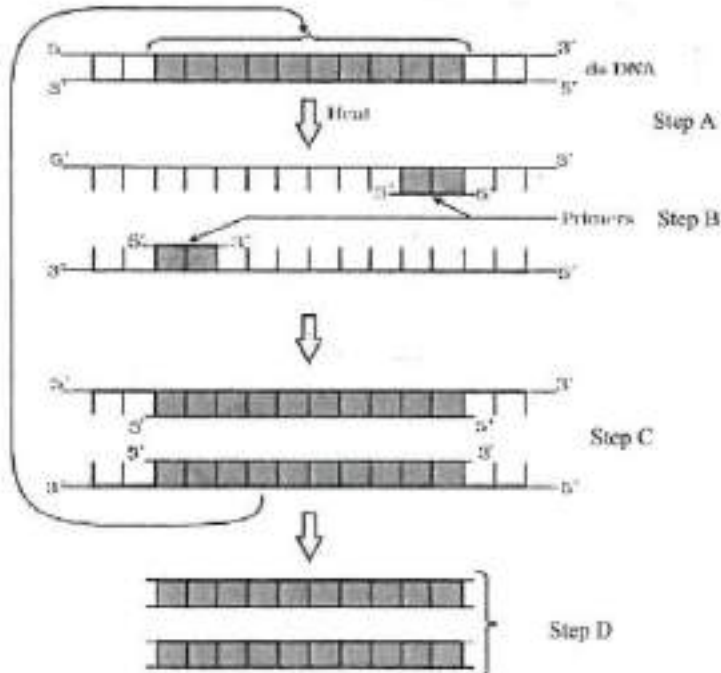
Question Number : 46 Question Id : 48558436431 Question Type : MCQ Option Shuffling : No Is Question Mandatory : No Calculator : None Response Time : N.A Think Time : N.A Minimum Instruction Time : 0

Correct Marks : 5 Wrong Marks : 1

Question Key Details :

| Key | Value |
|---------------|-------|
| Comprehension | Comp2 |

নিচের চিত্রটি থেকে নিম্নোক্ত প্রশ্নগুলির উত্তর দাও:



যদি বিক্রিয়াটি 1 মোডিউল ডি এন এ দিয়ে আরম্ভ হয়, তাহলে 1 বিলিয়ন পরিবর্তিত বিক্রিয়াজাত দ্রব্য উৎপাদন করতে প্রয়োজনীয় চক্রের সংখ্যা হবেঃ

1. 8টা চক্র
2. 16টা চক্র
3. 30টা চক্র
4. 25টা চক্র

Options :

485584145721. 1
 485584145722. 2
 485584145723. 3
 485584145724. 4

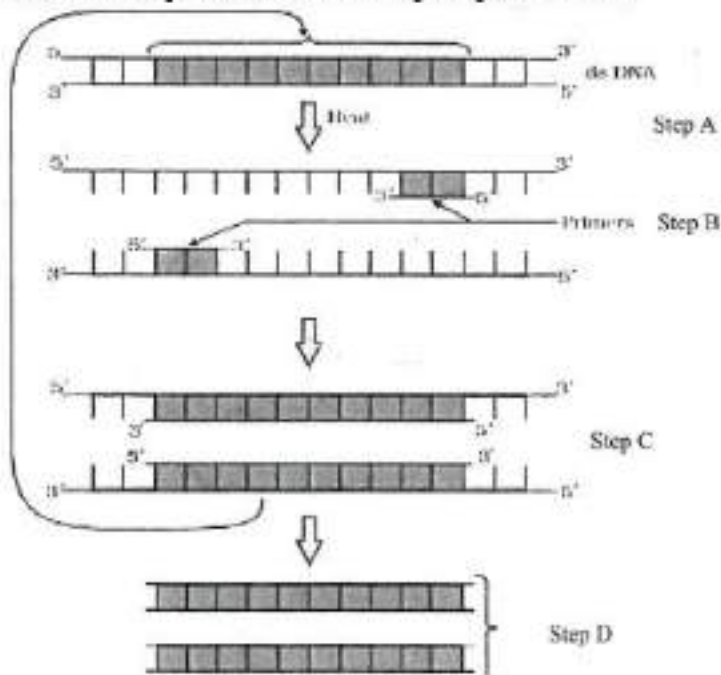
Question Number : 47 Question Id : 48558436432 Question Type : MCQ Option Shuffling : No Is Question Mandatory : No Calculator : None Response Time : N.A Think Time : N.A Minimum Instruction Time : 0

Correct Marks : 5 Wrong Marks : 1

Question Key Details :

| Key | Value |
|---------------|-------|
| Comprehension | Comp2 |

Answer the questions from the figure given below:



'Taq' in Taq polymerase stands for:

1. *Thermal aqua*
2. *Thermal aquaticus*
3. *Thermas aqua*
4. *Thermus aquaticus*

Options :

485584145725. 1
485584145726. 2
485584145727. 3
485584145728. 4

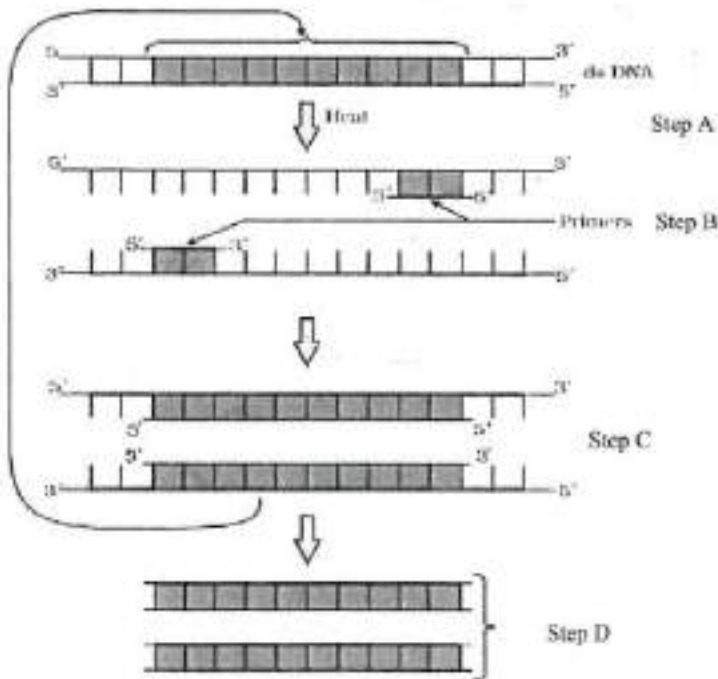
Question Number : 47 Question Id : 48558436432 Question Type : MCQ Option Shuffling : No Is Question Mandatory : No Calculator : None Response Time : N.A Think Time : N.A Minimum Instruction Time : 0

Correct Marks : 5 Wrong Marks : 1

Question Key Details :

| Key | Value |
|---------------|-------|
| Comprehension | Comp2 |

নিচের চিত্রটি থেকে নিম্নোক্ত প্রশ্নগুলির উত্তর দাও:



Taq পলিমারেজে 'Taq'-র অর্থ হলোঃ

1. থার্মাল একুয়া (thermal aqua)
2. থার্মাল একুয়াটিকাস (thermal aquaticus)
3. থার্মাছ একুবা (thermus aqua)
4. থার্মাছ একুয়াটিকাস (thermus aquaticus)

Options :

485584145725. 1
485584145726. 2
485584145727. 3
485584145728. 4

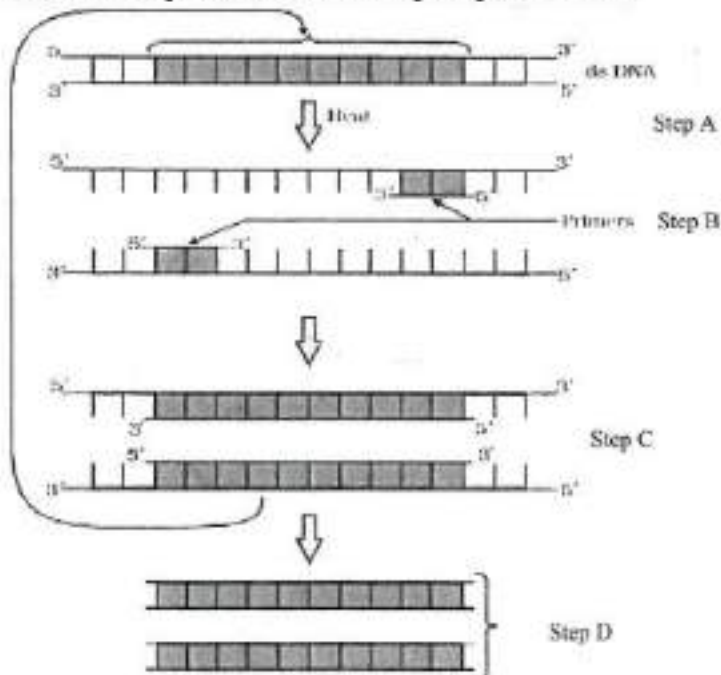
Question Number : 48 Question Id : 48558436433 Question Type : MCQ Option Shuffling : No Is Question Mandatory : No Calculator : None Response Time : N.A Think Time : N.A Minimum Instruction Time : 0

Correct Marks : 5 Wrong Marks : 1

Question Key Details :

| Key | Value |
|---------------|-------|
| Comprehension | Comp2 |

Answer the questions from the figure given below:



Taq polymerase is the preferred DNA polymerase in PCR because :

1. It is obtained from a fast breeding bacteria.
2. It can bind with the primers efficiently.
3. It remains active during high temperature.
4. It has high turnover rate.

Options :

485584145729. 1

485584145730. 2

485584145731. 3

485584145732. 4

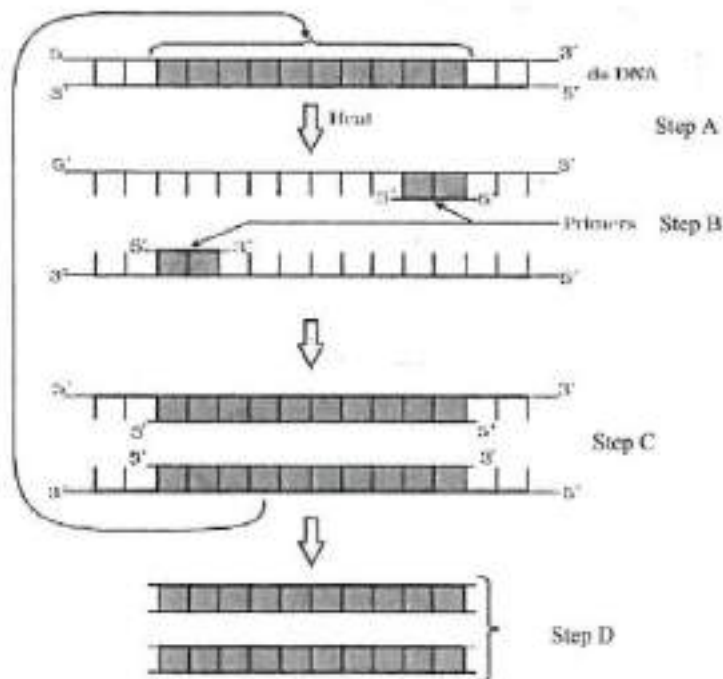
Question Number : 48 Question Id : 48558436433 Question Type : MCQ Option Shuffling : No Is Question Mandatory : No Calculator : None Response Time : N.A Think Time : N.A Minimum Instruction Time : 0

Correct Marks : 5 Wrong Marks : 1

Question Key Details :

| Key | Value |
|---------------|-------|
| Comprehension | Comp2 |

নিচের চিত্রটি থেকে নিম্নোক্ত প্রশ্নগুলির উত্তর দাওঃ



পলিমারেজ শৃংখল বিক্রিয়ার (PCR) ক্ষেত্রে উপযুক্ত পলিমারেজটি হলো Taq পলিমারেজ, কারণঃ

1. একে একটি দ্রুত হারে বংশবৃদ্ধি করা ব্যাক্টেরিয়া থেকে আহরণ করা হয়।
2. একে প্রারম্ভিক বা প্রাইমারদের সঙ্গে সুদক্ষভাবে বেঁধে রাখা যায়
3. এ উচ্চ উষ্ণতায়ও সক্রিয় থাকে
4. এর টার্নওভার বা রূপান্তরণ ক্ষমতার হার উচ্চ

Options :

485584145729. 1
 485584145730. 2
 485584145731. 3
 485584145732. 4

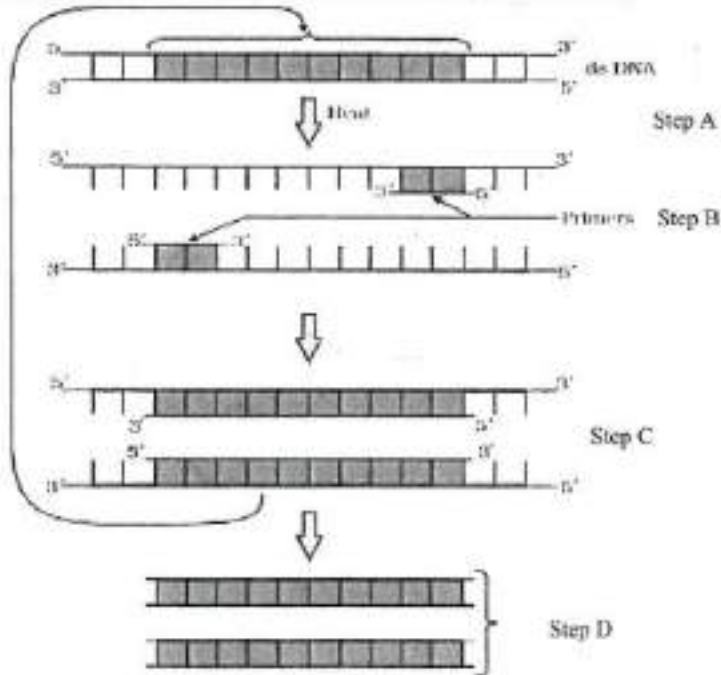
Question Number : 49 Question Id : 48558436434 Question Type : MCQ Option Shuffling : No Is Question Mandatory : No Calculator : None Response Time : N.A Think Time : N.A Minimum Instruction Time : 0

Correct Marks : 5 Wrong Marks : 1

Question Key Details :

| Key | Value |
|---------------|-------|
| Comprehension | Comp2 |

Answer the questions from the figure given below:



The step 'D' in the figure depicts:

1. Region where the restriction enzyme cuts.
2. An important gene of interest
3. Primer joining region
4. Only amplified product

Options :

485584145733. 1
485584145734. 2
485584145735. 3
485584145736. 4

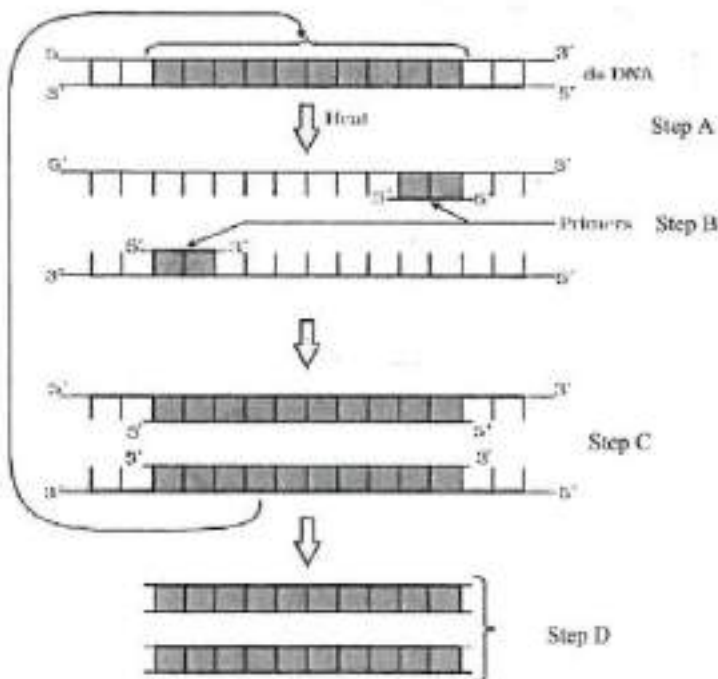
Question Number : 49 Question Id : 48558436434 Question Type : MCQ Option Shuffling : No Is Question Mandatory : No Calculator : None Response Time : N.A Think Time : N.A Minimum Instruction Time : 0

Correct Marks : 5 Wrong Marks : 1

Question Key Details :

| Key | Value |
|---------------|-------|
| Comprehension | Comp2 |

নিচের চিত্রটি থেকে নিম্নোক্ত প্রশ্নগুলির উত্তর দাও:



চিত্রটিতে প্রদর্শিত 'D' স্তরটি বর্ণনা করেঃ

1. বিদারণ বা রেস্ট্রিকশ্যান উৎসেচক বা এনজাইমে ছেদন করা অঞ্চল
2. এক গুরুত্বপূর্ণ স্থিতিত জিন
3. প্রারম্ভক বা প্রাইমারের দ্বারা সংযুক্ত অঞ্চল
4. কেবল পরিবর্তিত উৎপাদিত দ্রব্য

Options :

485584145733. 1
485584145734. 2
485584145735. 3
485584145736. 4

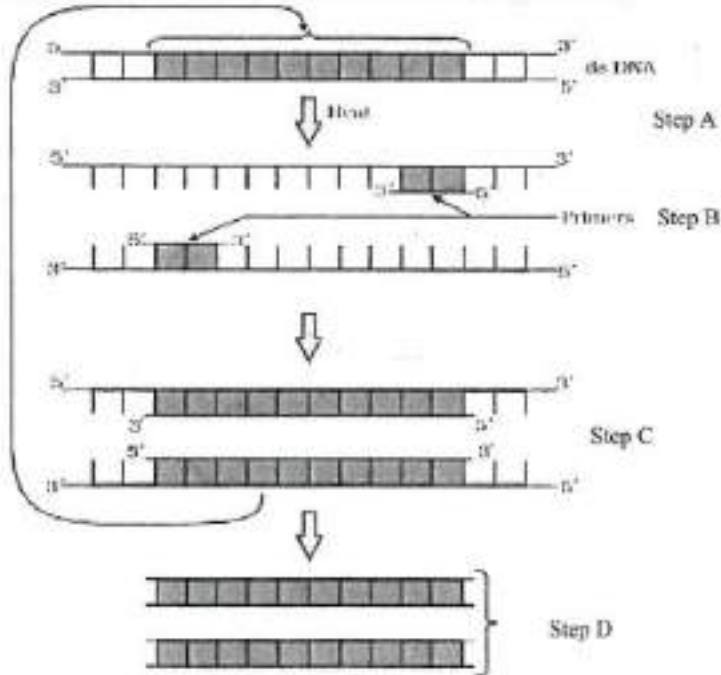
Question Number : 50 Question Id : 48558436435 Question Type : MCQ Option Shuffling : No Is Question Mandatory : No Calculator : None Response Time : N.A Think Time : N.A Minimum Instruction Time : 0

Correct Marks : 5 Wrong Marks : 1

Question Key Details :

| Key | Value |
|---------------|-------|
| Comprehension | Comp2 |

Answer the questions from the figure given below:



The step 'B' in the figure is called as:

1. Termination
2. Extension
3. Annealing
4. Reannealing

Options :

485584145737. 1
485584145738. 2
485584145739. 3
485584145740. 4

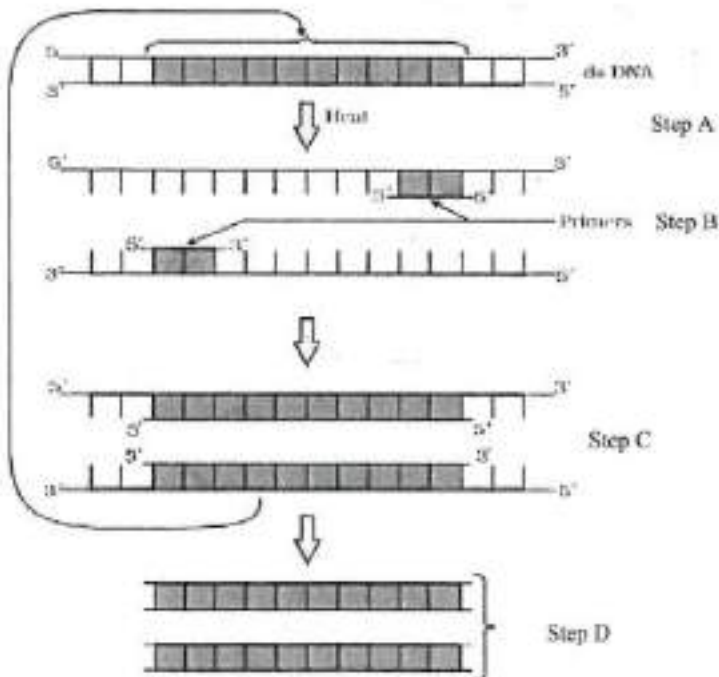
Question Number : 50 Question Id : 48558436435 Question Type : MCQ Option Shuffling : No Is Question Mandatory : No Calculator : None Response Time : N.A Think Time : N.A Minimum Instruction Time : 0

Correct Marks : 5 Wrong Marks : 1

Question Key Details :

| Key | Value |
|---------------|-------|
| Comprehension | Comp2 |

নিচের চিত্রটি থেকে নিম্নোক্ত প্রশ্নগুলির উত্তর দাও:



চিত্রটিতে প্রদর্শিত 'B' স্তরটিকে বলা হয়ঃ

1. সমাপন বা টার্মিনেশন
2. সম্প্রসারণ বা এক্সটেনশন
3. মস্তুর শীতলীকরণ বা অ্যানিলিং
4. মস্তুর পুনঃশীতলীকরণ বা রি-অ্যানিলিং

Options :

485584145737. 1
485584145738. 2
485584145739. 3
485584145740. 4

Business Studies

| | |
|-------------------------------|-----------|
| Group Number : | 3 |
| Group Id : | 485584823 |
| Group Maximum Duration : | 45 |
| Group Minimum Duration : | 45 |
| Show Attended Group? : | No |
| Edit Attended Group? : | No |
| Break time : | 0 |
| Group Marks : | 200 |
| Is this Group for Examiner? : | No |
| Examiner permission : | Cant View |
| Show Progress Bar? : | No |

Business Studies

| | |
|--|------------|
| Section Id : | 485584947 |
| Section Number : | 1 |
| Section type : | Online |
| Mandatory or Optional : | Mandatory |
| Number of Questions : | 50 |
| Number of Questions to be attempted : | 40 |
| Section Marks : | 200 |
| Enable Mark as Answered Mark for Review and Clear Response : | Yes |
| Maximum Instruction Time : | 0 |
| Sub-Section Number : | 1 |
| Sub-Section Id : | 4855842693 |
| Question Shuffling Allowed : | Yes |
| Is Section Default? : | null |

Question Number : 51 Question Id : 48558436436 Question Type : MCQ Option Shuffling : No Is Question Mandatory :
No Calculator : None Response Time : N.A Think Time : N.A Minimum Instruction Time : 0

Correct Marks : 5 Wrong Marks : 1

Question Key Details :

| Key | Value |
|---------------|-------|
| Comprehension | MCQ |

Which of the following is not an importance of management ?

1. Management is group activity
2. Management creates a dynamic organization
3. Management helps in the development of society
4. Management increases efficiency

Options :

485584145741. 1
485584145742. 2
485584145743. 3
485584145744. 4

Question Number : 51 Question Id : 48558436436 Question Type : MCQ Option Shuffling : No Is Question Mandatory : No Calculator : None Response Time : N.A Think Time : N.A Minimum Instruction Time : 0

Correct Marks : 5 Wrong Marks : 1

Question Key Details :

| Key | Value |
|---------------|-------|
| Comprehension | MCQ |

এর মধ্যে কোনটি ব্যবস্থাপনার ক্ষেত্র গুরুত্বপূর্ণ নয় ?

1. দলের কার্যবাহীতার ব্যবস্থাপনা
2. একটি গতিশীল সংস্থাকে বাড়ানোর ব্যবস্থাপনা
3. সামাজিক উন্নয়নে যে ব্যবস্থাপনা সাহায্য করে
4. দক্ষতা বৃদ্ধির ব্যবস্থাপনা

Options :

485584145741. 1
485584145742. 2
485584145743. 3
485584145744. 4

Question Number : 52 Question Id : 48558436437 Question Type : MCQ Option Shuffling : No Is Question Mandatory : No Calculator : None Response Time : N.A Think Time : N.A Minimum Instruction Time : 0

Correct Marks : 5 Wrong Marks : 1

Question Key Details :

| Key | Value |
|---------------|-------|
| Comprehension | MCQ |

Mc.Donalds, the fast food giant made major changes in its menu to be able to survive in Indian market. Which feature of management is reflected in above case ?

1. Management is an intangible force
2. Management is a dynamic function
3. Management is all pervasive
4. Management is multidimensional

Options :

485584145745. 1
485584145746. 2
485584145747. 3
485584145748. 4

Question Number : 52 Question Id : 48558436437 Question Type : MCQ Option Shuffling : No Is Question Mandatory : No Calculator : None Response Time : N.A Think Time : N.A Minimum Instruction Time : 0

Correct Marks : 5 Wrong Marks : 1

Question Key Details :

| Key | Value |
|---------------|-------|
| Comprehension | MCQ |

ম্যাক ডোনাল্ডস প্রথম বৃহৎ খাদ্য সংস্থা যারা তাদের সংখ্যা যার তাদের খাদ্য তালিকার বৃহৎ পদার্থ আনে ভারতীয় বাজারে টিকে থাকার জন্য ?

1. ব্যবস্থাপনা বা মেনেজমেন্টের কোন বৈশিষ্ট্যটি এর মধ্যে উঠে এসেছে
2. ম্যানেজমেন্ট একটি গতিশীল ক্রিয়া
3. মেনেজমেন্ট হল একটি সর্বব্যাপক ব্যবস্থা
4. ম্যানেজমেন্টের আছে বিভিন্ন গতিসম্পন্নতা

Options :

485584145745. 1
485584145746. 2
485584145747. 3
485584145748. 4

Question Number : 53 Question Id : 48558436438 Question Type : MCQ Option Shuffling : No Is Question Mandatory : No Calculator : None Response Time : N.A Think Time : N.A Minimum Instruction Time : 0

Correct Marks : 5 Wrong Marks : 1

Question Key Details :

| Key | Value |
|---------------|-------|
| Comprehension | MCQ |

"Planning is an Activity which enables a manager to look ahead and anticipate changes." Identify the point of Importance of Planning.

1. Planning reduces the risk of uncertainty
2. Planning facilitates decision making
3. Planning establishes standards for controlling
4. Planning provide directions

Options :

485584145749. 1
485584145750. 2
485584145751. 3
485584145752. 4

Question Number : 53 Question Id : 48558436438 Question Type : MCQ Option Shuffling : No Is Question Mandatory : No Calculator : None Response Time : N.A Think Time : N.A Minimum Instruction Time : 0

Correct Marks : 5 Wrong Marks : 1

Question Key Details :

| Key | Value |
|---------------|-------|
| Comprehension | MCQ |

"পরিকল্পনা হ'ল এমন একটি ক্রিয়াকলাপ য'আ একজন পরিচালকে সামনের দিকে তাকাতে এবং পরিবর্তনগুলি অনুপাতগুলি অনুমান কতে সাহায্য করে" পরিকল্পনাগলু অনিশ্চয়তার কারণ চিহ্নিত করুন।

1. পরিকল্পনা অনিশ্চয়তরা ঝুঁকি কমায়
2. পরিকল্পনা সিদ্ধান্ত গ্রহনে সুবিধা
3. পরিকল্পনা নিয়ন্ত্রনের মান প্রতিষ্ঠা করে
4. পরিকল্পনা দিক নির্দেশ প্রদান করে।

Options :

485584145749. 1
485584145750. 2
485584145751. 3
485584145752. 4

Question Number : 54 Question Id : 48558436439 Question Type : MCQ Option Shuffling : No Is Question Mandatory : No Calculator : None Response Time : N.A Think Time : N.A Minimum Instruction Time : 0

Correct Marks : 5 Wrong Marks : 1

Question Key Details :

| Key | Value |
|---------------|-------|
| Comprehension | MCQ |

Ravi is working as supervisor with Zinc limited. Identify the level of management at which Ravi is employed.

1. Top Management
2. Middle Management
3. Operational Management
4. Apex Management

Options :

485584145753. 1
485584145754. 2
485584145755. 3
485584145756. 4

Question Number : 54 Question Id : 48558436439 Question Type : MCQ Option Shuffling : No Is Question Mandatory : No Calculator : None Response Time : N.A Think Time : N.A Minimum Instruction Time : 0

Correct Marks : 5 Wrong Marks : 1

Question Key Details :

| Key | Value |
|---------------|-------|
| Comprehension | MCQ |

রবি জিঙ্ক লিমিটেডের সুপারভাইজার হিসাবে কাজ করছেন। রবি যে স্তরে নিযুক্ত আছেন তা ব্যবস্থাপনার স্তর চিহ্নিত করুন।

1. শীর্ষ ব্যবস্থাপনা
2. মধ্য ব্যবস্থাপনা
3. অপারেশনাল ম্যানেজমেন্ট
4. এপেক্স ম্যানেজমেন্ট

Options :

485584145753. 1
485584145754. 2
485584145755. 3
485584145756. 4

Question Number : 55 Question Id : 48558436440 Question Type : MCQ Option Shuffling : No Is Question Mandatory : No Calculator : None Response Time : N.A Think Time : N.A Minimum Instruction Time : 0

Correct Marks : 5 Wrong Marks : 1

Question Key Details :

| Key | Value |
|---------------|-------|
| Comprehension | MCQ |

In this type of Organizational structure, the cost may increase since there may be a duplication of activities across products. Identify the organizational structure.

1. Functional Structure
2. Delegated Structure
3. Divisional Structure
4. Informal Structure

Options :

485584145757. 1
485584145758. 2
485584145759. 3
485584145760. 4

Question Number : 55 Question Id : 48558436440 Question Type : MCQ Option Shuffling : No Is Question Mandatory : No Calculator : None Response Time : N.A Think Time : N.A Minimum Instruction Time : 0

Correct Marks : 5 Wrong Marks : 1

Question Key Details :

| Key | Value |
|---------------|-------|
| Comprehension | MCQ |

৫ এই জাতীয় সাংগঠনিক পরিকাঠামোতে মূল্য বৃদ্ধি হতে পারে যেহেতু পণ্যের মধ্যে কার্যক্রমের অনুমান করা হয়।

1. কার্যক্রমের কাঠামো
2. অর্পিত কাঠামো
3. বিভাগীয় কাঠামো
4. আনুষ্ঠানিক কাঠামো

Options :

485584145757. 1
485584145758. 2
485584145759. 3
485584145760. 4

Question Number : 56 Question Id : 48558436441 Question Type : MCQ Option Shuffling : No Is Question Mandatory : No Calculator : None Response Time : N.A Think Time : N.A Minimum Instruction Time : 0

Correct Marks : 5 Wrong Marks : 1

Question Key Details :

| Key | Value |
|---------------|-------|
| Comprehension | MCQ |

Divisional Structure is based on _____.

1. Product Lines
2. Functional Lines
3. Informal Basis
4. Occupational Specialization

Options :

485584145761. 1
485584145762. 2
485584145763. 3
485584145764. 4

Question Number : 56 Question Id : 48558436441 Question Type : MCQ Option Shuffling : No Is Question Mandatory : No Calculator : None Response Time : N.A Think Time : N.A Minimum Instruction Time : 0

Correct Marks : 5 Wrong Marks : 1

Question Key Details :

| Key | Value |
|---------------|-------|
| Comprehension | MCQ |

বিভাগীয় কাঠামো _____ এর নির্ভরশীল।

1. সামগ্রীয় সারি/প্রোডাক্ট লাইন
2. কার্যকরী বা ফ্যাংশানাল লাইন
3. আনুষ্ঠানিক বা ইনফরম্যাল লাইন
4. পেশাগত বিশেষীকরণ

Options :

485584145761. 1
485584145762. 2
485584145763. 3
485584145764. 4

Question Number : 57 Question Id : 48558436442 Question Type : MCQ Option Shuffling : No Is Question Mandatory : No Calculator : None Response Time : N.A Think Time : N.A Minimum Instruction Time : 0

Correct Marks : 5 Wrong Marks : 1

Question Key Details :

| Key | Value |
|---------------|-------|
| Comprehension | MCQ |

_____ can be delegated.

1. Responsibility
2. Authority
3. Accountability
4. Answerability

Options :

485584145765. 1
485584145766. 2
485584145767. 3
485584145768. 4

Question Number : 57 Question Id : 48558436442 Question Type : MCQ Option Shuffling : No Is Question Mandatory : No Calculator : None Response Time : N.A Think Time : N.A Minimum Instruction Time : 0

Correct Marks : 5 Wrong Marks : 1

Question Key Details :

| Key | Value |
|---------------|-------|
| Comprehension | MCQ |

_____ আর্থিক হতে পারে

1. দায়িত্ব
2. মালিকানা
3. ঝুঁকি
4. জবাবদিহিতা

Options :

485584145765. 1
485584145766. 2
485584145767. 3
485584145768. 4

Question Number : 58 Question Id : 48558436443 Question Type : MCQ Option Shuffling : No Is Question Mandatory : No Calculator : None Response Time : N.A Think Time : N.A Minimum Instruction Time : 0

Correct Marks : 5 Wrong Marks : 1

Question Key Details :

| Key | Value |
|---------------|-------|
| Comprehension | MCQ |

_____ Test is a measure of individuals potential for learning new skills.

1. Trade tests
2. Personality tests
3. Aptitude tests
4. Intelligence tests

Options :

485584145769. 1
485584145770. 2
485584145771. 3
485584145772. 4

Question Number : 58 Question Id : 48558436443 Question Type : MCQ Option Shuffling : No Is Question Mandatory : No Calculator : None Response Time : N.A Think Time : N.A Minimum Instruction Time : 0

Correct Marks : 5 Wrong Marks : 1

Question Key Details :

| Key | Value |
|---------------|-------|
| Comprehension | MCQ |

_____ পরীক্ষা হল নতুন দক্ষতা শেখার ব্যক্তিগত সম্ভাবনা একটি পরিমাপ

1. বানিজ্য সংক্রান্ত পরীক্ষা
2. ব্যক্তিত্ব সংক্রান্ত পরীক্ষা
3. যোগ্যতা পরীক্ষা
4. মেধার পরীক্ষা

Options :

485584145769. 1
485584145770. 2
485584145771. 3
485584145772. 4

Question Number : 59 Question Id : 48558436444 Question Type : MCQ Option Shuffling : No Is Question Mandatory : No Calculator : None Response Time : N.A Think Time : N.A Minimum Instruction Time : 0

Correct Marks : 5 Wrong Marks : 1

Question Key Details :

| Key | Value |
|---------------|-------|
| Comprehension | MCQ |

"Many reputed organizations keep a database of unsolicited applications in their offices based on which a list of job-seekers can be prepared and can be screened to fill the vacancies as they arise". Identify the source referred of recruitment above.

1. Direct Recruitment
2. Campus Recruitment
3. Labour Contractors
4. Casual Callers

Options :

485584145773. 1
485584145774. 2
485584145775. 3
485584145776. 4

Question Number : 59 Question Id : 48558436444 Question Type : MCQ Option Shuffling : No Is Question Mandatory : No Calculator : None Response Time : N.A Think Time : N.A Minimum Instruction Time : 0

Correct Marks : 5 Wrong Marks : 1

Question Key Details :

| Key | Value |
|---------------|-------|
| Comprehension | MCQ |

“বহু নামী সংস্থা তাদের অফিস চালিত অ্যাপলিকেশন ডেটাবেস বা তথ্য রেখে দেয় যার ফলে কিছু সংখ্যক চাকুরী পাঠীরা প্রস্তুত হতে পারে এবং তাদের থাকা পদ গুলির পূর্ণ করতে পারে মি. দৈনন্দিন প্রয়োজনীয়তা নিহিখে।

1. সরাসরি নিয়োগ
2. ফ্যাসান নিয়োগ
3. শ্রমীক ঠিকাদারী
4. সাধারণ বিক্রোতা

Options :

485584145773. 1
485584145774. 2
485584145775. 3
485584145776. 4

Question Number : 60 Question Id : 48558436445 Question Type : MCQ Option Shuffling : No Is Question Mandatory : No Calculator : None Response Time : N.A Think Time : N.A Minimum Instruction Time : 0

Correct Marks : 5 Wrong Marks : 1

Question Key Details :

| Key | Value |
|---------------|-------|
| Comprehension | MCQ |

It involves shifting of an employee from one job to another, one department to another or from one shift to another, without a substantive change in the responsibilities and status of an employee. It is known as _____.

1. Training
2. Transfer
3. Promotion
4. Development

Options :

485584145777. 1
485584145778. 2
485584145779. 3
485584145780. 4

Question Number : 60 Question Id : 48558436445 Question Type : MCQ Option Shuffling : No Is Question Mandatory : No Calculator : None Response Time : N.A Think Time : N.A Minimum Instruction Time : 0

Correct Marks : 5 Wrong Marks : 1

Question Key Details :

| Key | Value |
|---------------|-------|
| Comprehension | MCQ |

একটি কর্মচারি একটি চাকুরি থেকে অন্য চাকুরিতে গমন এক বিভাগ থেকে অন্য বিভাগ একরকম সময় সীমা থেকে অন্যতে গমন তার দায়িত্ব ও পদমর্যদা একই রকম রেখে এট কে বলে-

1. পশিক্ষন
2. বদলী
3. পদোন্নতি
4. উন্নয়ন

Options :

485584145777. 1
485584145778. 2
485584145779. 3
485584145780. 4

Question Number : 61 Question Id : 48558436446 Question Type : MCQ Option Shuffling : No Is Question Mandatory : No Calculator : None Response Time : N.A Think Time : N.A Minimum Instruction Time : 0

Correct Marks : 5 Wrong Marks : 1

Question Key Details :

| Key | Value |
|---------------|-------|
| Comprehension | MCQ |

Organizational barriers to communication do not include :

1. Rules and regulations
2. Status
3. Organizational Policy
4. Lack of attention

Options :

485584145781. 1
485584145782. 2
485584145783. 3
485584145784. 4

Question Number : 61 Question Id : 48558436446 Question Type : MCQ Option Shuffling : No Is Question Mandatory : No Calculator : None Response Time : N.A Think Time : N.A Minimum Instruction Time : 0

Correct Marks : 5 Wrong Marks : 1

Question Key Details :

| Key | Value |
|---------------|-------|
| Comprehension | MCQ |

যোগাযোগে সংগঠনিক বাধা অন্তর্ভুক্ত নয়-

1. নিয়ম এবং প্রবিধানের
2. অবস্থার
3. সাংগঠনিক নীতি
4. মনোযোগের অভাব

Options :

485584145781. 1
485584145782. 2
485584145783. 3
485584145784. 4

Question Number : 62 Question Id : 48558436447 Question Type : MCQ Option Shuffling : No Is Question Mandatory : No Calculator : None Response Time : N.A Think Time : N.A Minimum Instruction Time : 0

Correct Marks : 5 Wrong Marks : 1

Question Key Details :

| Key | Value |
|---------------|-------|
| Comprehension | MCQ |

_____ means giving more autonomy and power to subordinates. This feeling contributes positively to the use of skills and talents in the job performance.

1. Employee Recognition Programme
2. Employee Empowerment
3. Status
4. Job Security

Options :

485584145785. 1
485584145786. 2
485584145787. 3
485584145788. 4

Question Number : 62 Question Id : 48558436447 Question Type : MCQ Option Shuffling : No Is Question Mandatory : No Calculator : None Response Time : N.A Think Time : N.A Minimum Instruction Time : 0

Correct Marks : 5 Wrong Marks : 1

Question Key Details :

| Key | Value |
|---------------|-------|
| Comprehension | MCQ |

_____ র অর্থ অধীনস্থ কর্মচারীদের ব্যক্তি স্বাধীনতা ও ক্ষমতা প্রদান করা, এই অনুভূতি চাকুরী ক্ষেত্রে দক্ষতা ব্যবহার ওপ্রতিভাব প্রয়োজনকে বৃদ্ধি করে।

1. কর্মচারীদের স্বীকৃতি প্রদানের কর্মসূচী
2. কর্মচারী ক্ষমতায়ন
3. অবস্থান
4. চাকুরী নিরাপত্তা

Options :

485584145785. 1
485584145786. 2
485584145787. 3
485584145788. 4

Question Number : 63 Question Id : 48558436448 Question Type : MCQ Option Shuffling : No Is Question Mandatory : No Calculator : None Response Time : N.A Think Time : N.A Minimum Instruction Time : 0

Correct Marks : 5 Wrong Marks : 1

Question Key Details :

| Key | Value |
|---------------|-------|
| Comprehension | MCQ |

Which type of leader does not believe in the use of power unless it is absolutely essential ?

1. Free-rein / Laissez faire leader
2. Democratic leader
3. Autocratic leader
4. Participative leader

Options :

485584145789. 1
485584145790. 2
485584145791. 3
485584145792. 4

Question Number : 63 Question Id : 48558436448 Question Type : MCQ Option Shuffling : No Is Question Mandatory : No Calculator : None Response Time : N.A Think Time : N.A Minimum Instruction Time : 0

Correct Marks : 5 Wrong Marks : 1

Question Key Details :

| Key | Value |
|---------------|-------|
| Comprehension | MCQ |

কোন ধরনের নেতা ক্ষমতা প্রয়োগ বিশ্বাস করেন না যতক্ষন না তা অত্যাবশ্যক হয় পড়ে ?

1. ফ্রি-রেইন / ল্যািসহ ফেয়ার লিডার
2. গণতান্ত্রিক নেতা
3. সৈরচারী নেতা
4. অংশগ্রনকারী নেতা

Options :

485584145789. 1
485584145790. 2
485584145791. 3
485584145792. 4

Question Number : 64 Question Id : 48558436449 Question Type : MCQ Option Shuffling : No Is Question Mandatory : No Calculator : None Response Time : N.A Think Time : N.A Minimum Instruction Time : 0

Correct Marks : 5 Wrong Marks : 1

Question Key Details :

| Key | Value |
|---------------|-------|
| Comprehension | MCQ |

The incentive is offered over and above the wages/salary to the employees is _____.

1. Project Sharing
2. Pay or Allowances
3. Perquisites
4. Bonus

Options :

485584145793. 1
485584145794. 2
485584145795. 3
485584145796. 4

Question Number : 64 Question Id : 48558436449 Question Type : MCQ Option Shuffling : No Is Question Mandatory : No Calculator : None Response Time : N.A Think Time : N.A Minimum Instruction Time : 0

Correct Marks : 5 Wrong Marks : 1

Question Key Details :

| Key | Value |
|---------------|-------|
| Comprehension | MCQ |

মাসিক বেতনের বাইরে কর্মচারীদের আর্থিক প্রণোদনা দানল _____।

1. প্রকল্প ভাগাভাগি/প্রোজেক্ট সেয়ারি
2. ভাতা প্রদান
3. অনুগ্রহ
4. বোনাস

Options :

485584145793. 1
485584145794. 2
485584145795. 3
485584145796. 4

Question Number : 65 Question Id : 48558436450 Question Type : MCQ Option Shuffling : No Is Question Mandatory : No Calculator : None Response Time : N.A Think Time : N.A Minimum Instruction Time : 0

Correct Marks : 5 Wrong Marks : 1

Question Key Details :

| Key | Value |
|---------------|-------|
| Comprehension | MCQ |

Ashok went to a shop to buy a tooth paste. The shopkeeper showed him different varieties of toothpaste available in his shop. Ashok took one of them but had an allergy after using it. He later on checked that the product had crossed its expiry date. Which responsibility has Ashok ignored as a customer?

1. Read labels carefully for information such as net weight, price, expiry date etc.
2. Assert that you get a fair deal
3. Ask for a cash memo
4. Avoid waste, littering and contributing to pollution

Options :

485584145797. 1
485584145798. 2
485584145799. 3
485584145800. 4

Question Number : 65 Question Id : 48558436450 Question Type : MCQ Option Shuffling : No Is Question Mandatory : No Calculator : None Response Time : N.A Think Time : N.A Minimum Instruction Time : 0

Correct Marks : 5 Wrong Marks : 1

Question Key Details :

| Key | Value |
|---------------|-------|
| Comprehension | MCQ |

অশোক একটি টুথ পেস্ট কিনতে একটি দোকানে গিয়েছিলেন। দোকানদার এটি ব্যবহার করার পরে তাকে বিভিন্ন অ্যালার্জি দেখায়া পরে তিনি পরীক্ষা করে দেখেন যে পণ্যটির মেয়াদ শেষ হয়ে গেছে। গ্রাহক হিসেবে অশোক কোন দায়িত্বকে উপেক্ষা করেছেন?

1. নেট ওজন, মূল্য, মেয়াদ শেষ হওয়ার তারিখ ইত্যাদির মতো তথ্যের জন্য লেবেলগুলি সাবধানে পড়ুন।
2. আপনি একটি ন্যায্য চুক্তি পেতে দাবি
3. নগদ মেমো জন্য জিজ্ঞাসা করুন
4. বর্জ্য, আবর্জনা এবং দূষণে অবদান রাখা এড়িয়ে চলুন

Options :

485584145797. 1
485584145798. 2
485584145799. 3
485584145800. 4

Question Number : 66 Question Id : 48558436451 Question Type : MCQ Option Shuffling : No Is Question Mandatory : No Calculator : None Response Time : N.A Think Time : N.A Minimum Instruction Time : 0

Correct Marks : 5 Wrong Marks : 1

Question Key Details :

| Key | Value |
|---------------|-------|
| Comprehension | MCQ |

It is mandatory for the manufactures to provide information such as ingredients, date of manufacture, price, directions for use, price etc. The consumer right highlighted here is-

1. Right to safety
2. Right to be informed
3. Right to be heard
4. Right to Consumer Education

Options :

485584145801. 1
485584145802. 2
485584145803. 3
485584145804. 4

Question Number : 66 Question Id : 48558436451 Question Type : MCQ Option Shuffling : No Is Question Mandatory : No Calculator : None Response Time : N.A Think Time : N.A Minimum Instruction Time : 0

Correct Marks : 5 Wrong Marks : 1

Question Key Details :

| Key | Value |
|---------------|-------|
| Comprehension | MCQ |

উৎপাদকদের জন্য উপাদান, উৎপাদনের তারিখ, মূল্য, ব্যবহারের জন্য নির্দেশাবলী, মূল্য ইত্যাদির মতো তথ্য প্রদান করা বাধ্যতামূলক। এখানে হাইলাইট করা ভোক্তা অধিকার হল-

1. নিরাপত্তার অধিকার
2. জানানোর অধিকার
3. শোনার অধিকার
4. ভোক্তা শিক্ষার অধিকার

Options :

485584145801. 1
485584145802. 2
485584145803. 3
485584145804. 4

Question Number : 67 Question Id : 48558436452 Question Type : MCQ Option Shuffling : No Is Question Mandatory : No Calculator : None Response Time : N.A Think Time : N.A Minimum Instruction Time : 0

Correct Marks : 5 Wrong Marks : 1

Question Key Details :

| Key | Value |
|---------------|-------|
| Comprehension | MCQ |

Net working capital is computed as _____.

1. Gross current assets
2. Gross current assets - total debt
3. Current assets - External debt
4. Current assets - Current liabilities

Options :

485584145805. 1
485584145806. 2
485584145807. 3
485584145808. 4

Question Number : 67 Question Id : 48558436452 Question Type : MCQ Option Shuffling : No Is Question Mandatory : No Calculator : None Response Time : N.A Think Time : N.A Minimum Instruction Time : 0

Correct Marks : 5 Wrong Marks : 1

Question Key Details :

| Key | Value |
|---------------|-------|
| Comprehension | MCQ |

নেট ওয়কিং ক্যাপিটাল সম্পর্কে _____

1. মোট বর্তমান সম্পদ
2. মোট বর্তমান সম্পদ - মোট ঋণ-এ
3. বর্তমান সম্পদ - বাহ্যিক দেনা-এ
4. বর্তমান সম্পদ - বর্তমান দায়বদ্ধতায়

Options :

485584145805. 1
485584145806. 2
485584145807. 3
485584145808. 4

Question Number : 68 Question Id : 48558436453 Question Type : MCQ Option Shuffling : No Is Question Mandatory : No Calculator : None Response Time : N.A Think Time : N.A Minimum Instruction Time : 0

Correct Marks : 5 Wrong Marks : 1

Question Key Details :

| Key | Value |
|---------------|-------|
| Comprehension | MCQ |

_____ of a company affects both the profitability and the financial risk.

1. Working Capital
2. Capital Structure
3. Fixed Capital
4. Dividend decision

Options :

485584145809. 1
485584145810. 2
485584145811. 3
485584145812. 4

Question Number : 68 Question Id : 48558436453 Question Type : MCQ Option Shuffling : No Is Question Mandatory : No Calculator : None Response Time : N.A Think Time : N.A Minimum Instruction Time : 0

Correct Marks : 5 Wrong Marks : 1

Question Key Details :

| Key | Value |
|---------------|-------|
| Comprehension | MCQ |

একটি কোম্পানীর _____ লাভজনকতা ও আর্থিক ঝুঁকি ক্ষেত্রে কেই প্রভাবিত করে

1. কার্যকরী মূলধন
2. মূলধন গঠন
3. স্থায়ী মূলধন
4. লভ্যাংশ সিদ্ধান্ত

Options :

485584145809. 1
485584145810. 2
485584145811. 3
485584145812. 4

Question Number : 69 Question Id : 48558436454 Question Type : MCQ Option Shuffling : No Is Question Mandatory : No Calculator : None Response Time : N.A Think Time : N.A Minimum Instruction Time : 0

Correct Marks : 5 Wrong Marks : 1

Question Key Details :

| Key | Value |
|---------------|-------|
| Comprehension | MCQ |

Identify the decision in which a company has to choose where to invest its resources so that it is able to earn the maximum possible return for their investors.

1. Working capital decision
2. Financing decision
3. Dividend decision
4. Investment decision

Options :

485584145813. 1
485584145814. 2
485584145815. 3
485584145816. 4

Question Number : 69 Question Id : 48558436454 Question Type : MCQ Option Shuffling : No Is Question Mandatory : No Calculator : None Response Time : N.A Think Time : N.A Minimum Instruction Time : 0

Correct Marks : 5 Wrong Marks : 1

Question Key Details :

| Key | Value |
|---------------|-------|
| Comprehension | MCQ |

একটি কোম্পানিকে তার সংস্থানগুলি কোথায় বিনিয়োগ করতে হবে তা বেছে নিতে হবে যাতে এটি তাদের বিনিয়োগকারীদের জন্য সর্বাধিক সম্ভাব্য রিটার্ন অর্জন করতে সক্ষম হয় তা চিহ্নিত করুন।

1. ওয়ার্কিং ক্যাপিটাল সিদ্ধান্ত
2. অর্থায়ন সিদ্ধান্ত
3. লভ্যাংশ সিদ্ধান্ত
4. বিনিয়োগের সিদ্ধান্ত

Options :

485584145813. 1
485584145814. 2
485584145815. 3
485584145816. 4

Question Number : 70 Question Id : 48558436455 Question Type : MCQ Option Shuffling : No Is Question Mandatory : No Calculator : None Response Time : N.A Think Time : N.A Minimum Instruction Time : 0

Correct Marks : 5 Wrong Marks : 1

Question Key Details :

| Key | Value |
|---------------|-------|
| Comprehension | MCQ |

Select the term that indicates Principles of Management are not rigid prescriptions.

1. Human behaviour
2. Mainly behaviour
3. Contingent
4. Flexible

Options :

485584145817. 1
485584145818. 2
485584145819. 3
485584145820. 4

Question Number : 70 Question Id : 48558436455 Question Type : MCQ Option Shuffling : No Is Question Mandatory : No Calculator : None Response Time : N.A Think Time : N.A Minimum Instruction Time : 0

Correct Marks : 5 Wrong Marks : 1

Question Key Details :

| Key | Value |
|---------------|-------|
| Comprehension | MCQ |

এমন শব্দটি নির্বাচন করুন যা নির্দেশ করে যে পরিচালনার নীতিগুলি কঠোর প্রেসক্রিপশন নয়।

1. মানুষের আচরণ
2. মেরিলি আচরণ
3. কন্টিনজেন্ট
4. নমনীয়

Options :

485584145817. 1
485584145818. 2
485584145819. 3
485584145820. 4

Question Number : 71 Question Id : 48558436456 Question Type : MCQ Option Shuffling : No Is Question Mandatory : No Calculator : None Response Time : N.A Think Time : N.A Minimum Instruction Time : 0

Correct Marks : 5 Wrong Marks : 1

Question Key Details :

| Key | Value |
|---------------|-------|
| Comprehension | MCQ |

" People and materials must be in suitable places at appropriate time for maximum efficiency."

Application of this principle will lead to:

1. Hindrance in the activities of business/factory
2. Increased productivity and efficiency
3. No discrimination against anyone
4. Justice and kindness in the behaviour of managers.

Options :

485584145821. 1
485584145822. 2
485584145823. 3
485584145824. 4

Question Number : 71 Question Id : 48558436456 Question Type : MCQ Option Shuffling : No Is Question Mandatory : No Calculator : None Response Time : N.A Think Time : N.A Minimum Instruction Time : 0

Correct Marks : 5 Wrong Marks : 1

Question Key Details :

| Key | Value |
|---------------|-------|
| Comprehension | MCQ |

"সর্বোচ্চ দক্ষতার জন্য মানুষ এবং উপকরণ উপযুক্ত সময়ে উপযুক্ত স্থানে থাকতে হবে।"
এই নীতির প্রয়োগের ফলে:

1. ব্যবসায়/কারখানার কার্যক্রমে বাধা
2. উৎপাদনশীলতা এবং দক্ষতা বৃদ্ধি
3. কারো প্রতি কোন বৈষম্য নয়
4. ব্যবস্থাপকদের আচরণে ন্যায়বিচার এবং সদয়তা।

Options :

485584145821. 1
485584145822. 2
485584145823. 3
485584145824. 4

Question Number : 72 Question Id : 48558436457 Question Type : MCQ Option Shuffling : No Is Question Mandatory : No Calculator : None Response Time : N.A Think Time : N.A Minimum Instruction Time : 0

Correct Marks : 5 Wrong Marks : 1

Question Key Details :

| Key | Value |
|---------------|-------|
| Comprehension | MCQ |

In the principle of Scalar Chain, the shortest route for communication in case of emergency is called:

1. Gang Plank
2. Special route
3. Formal route
4. Protocol

Options :

485584145825. 1
485584145826. 2
485584145827. 3
485584145828. 4

Question Number : 72 Question Id : 48558436457 Question Type : MCQ Option Shuffling : No Is Question Mandatory : No Calculator : None Response Time : N.A Think Time : N.A Minimum Instruction Time : 0

Correct Marks : 5 Wrong Marks : 1

Question Key Details :

| Key | Value |
|---------------|-------|
| Comprehension | MCQ |

স্কেলার চেইনের নীতিতে, জরুরী পরিস্থিতিতে যোগাযোগের জন্য সংক্ষিপ্ততম রুট বলা হয়:

1. গ্যাং প্লাঙ্ক
2. বিশেষ রুট
3. আনুষ্ঠানিক রুট
4. প্রোটোকল

Options :

485584145825. 1
485584145826. 2
485584145827. 3
485584145828. 4

Question Number : 73 Question Id : 48558436458 Question Type : MCQ Option Shuffling : No Is Question Mandatory : No Calculator : None Response Time : N.A Think Time : N.A Minimum Instruction Time : 0

Correct Marks : 5 Wrong Marks : 1

Question Key Details :

| Key | Value |
|---------------|-------|
| Comprehension | MCQ |

If any party is not satisfied by the order of District Commission, then appeal against such order can be made to state commission within a period of _____ days from the date of order.

1. Forty five
2. Thirty
3. Sixty
4. Forty

Options :

485584145829. 1
485584145830. 2
485584145831. 3
485584145832. 4

Question Number : 73 Question Id : 48558436458 Question Type : MCQ Option Shuffling : No Is Question Mandatory : No Calculator : None Response Time : N.A Think Time : N.A Minimum Instruction Time : 0

Correct Marks : 5 Wrong Marks : 1

Question Key Details :

| Key | Value |
|---------------|-------|
| Comprehension | MCQ |

যদি কোন পক্ষ জেলা কমিশনের কোন আদেশে সন্তুষ্ট না হয় তাহলে তার বিরুদ্ধে রাজ্য কমিশনে আবেদন করা যায় লেট অর্ডারের _____ দিনের মধ্যে

1. পঁয়তাল্লিশ দিন
2. ত্রিশ দিন
3. ষাঠ দিন
4. চল্লিশ দিন

Options :

485584145829. 1
485584145830. 2
485584145831. 3
485584145832. 4

Question Number : 74 Question Id : 48558436459 Question Type : MCQ Option Shuffling : No Is Question Mandatory : No Calculator : None Response Time : N.A Think Time : N.A Minimum Instruction Time : 0

Correct Marks : 5 Wrong Marks : 1

Question Key Details :

| Key | Value |
|---------------|-------|
| Comprehension | MCQ |

Functions of Entrepreneurship in relation to economic Development do not include :-

1. Contribution to GDP
2. Capital Formation
3. Generation of Employment
4. Generation of Business opportunities only for same business

Options :

485584145833. 1
485584145834. 2
485584145835. 3
485584145836. 4

Question Number : 74 Question Id : 48558436459 Question Type : MCQ Option Shuffling : No Is Question Mandatory : No Calculator : None Response Time : N.A Think Time : N.A Minimum Instruction Time : 0

Correct Marks : 5 Wrong Marks : 1

Question Key Details :

| Key | Value |
|---------------|-------|
| Comprehension | MCQ |

আর্থি উন্নয়নের ক্ষেত্রে উদ্যোগ পতির কার্যকলাপ অন্তর্ভুক্ত করে না

1. GDP তে অবদান
2. পুঁজি গঠন
3. কর্মস্থান সৃষ্টি
4. কেবলমাত্র কিছু ব্যবসার ক্ষেত্রে ব্যবসা করার সুযোগ সৃষ্টি

Options :

485584145833. 1
485584145834. 2
485584145835. 3
485584145836. 4

Question Number : 75 Question Id : 48558436460 Question Type : MCQ Option Shuffling : No Is Question Mandatory : No Calculator : None Response Time : N.A Think Time : N.A Minimum Instruction Time : 0

Correct Marks : 5 Wrong Marks : 1

Question Key Details :

| Key | Value |
|---------------|-------|
| Comprehension | MCQ |

The person who combines all factors of production, who takes risk to earn profit is called entrepreneur.
Entrepreneur is _____.

1. Subject
2. Verb
3. Outcome
4. Process

Options :

485584145837. 1
485584145838. 2
485584145839. 3
485584145840. 4

**Question Number : 75 Question Id : 48558436460 Question Type : MCQ Option Shuffling : No Is Question Mandatory :
No Calculator : None Response Time : N.A Think Time : N.A Minimum Instruction Time : 0**

Correct Marks : 5 Wrong Marks : 1

Question Key Details :

| Key | Value |
|---------------|-------|
| Comprehension | MCQ |

একজন ব্যক্তি যিনি পণ্য উৎপাদনের সমস্ত স্তরে অবদান রাখেন, যিনি মূনাফা অর্জনের জন্য ঝুঁকি নেন তাকে বলে উদ্যোগপতি, উদ্যোগপতি (Entrepreneur) _____ হল-

1. বিষয়
2. ক্রিয়া
3. ফলাফল
4. পদ্ধতি

Options :

485584145837. 1
485584145838. 2
485584145839. 3
485584145840. 4

**Question Number : 76 Question Id : 48558436461 Question Type : MCQ Option Shuffling : No Is Question Mandatory :
No Calculator : None Response Time : N.A Think Time : N.A Minimum Instruction Time : 0**

Correct Marks : 5 Wrong Marks : 1

Question Key Details :

| Key | Value |
|---------------|-------|
| Comprehension | MCQ |

Zicon Ltd. has recently set a target of becoming market leader in sale of smart TV. Arrange the steps in the process of planning which will follow after setting of targets :

- A. Identifying alternative courses of action
- B. Implementing the plan
- C. Evaluating alternative courses
- D. Selecting an alternative
- E. Developing premises

Choose the correct answer from the options given below :

- 1. E, A, C, D, B
- 2. E, C, D, B, A
- 3. B, C, E, A, D
- 4. E, A, B, D, C

Options :

- 485584145841. 1
- 485584145842. 2
- 485584145843. 3
- 485584145844. 4

Question Number : 76 Question Id : 48558436461 Question Type : MCQ Option Shuffling : No Is Question Mandatory : No Calculator : None Response Time : N.A Think Time : N.A Minimum Instruction Time : 0

Correct Marks : 5 Wrong Marks : 1

Question Key Details :

| Key | Value |
|---------------|-------|
| Comprehension | MCQ |

জিকোন লিমিটেড সাম্প্রতিক বাজারের স্মার্ট টিভি বিক্রয়ের ক্ষেত্রে নেতৃত্ব আসার টার্গেট নিয়েছে। পরিকল্পনার ধাপগুলি ক্রমানুযায়ী সাজাও যেটি টার্গেট স্থির করার পর পালন করা হবে:

- A. বিকল্প কার্যধারা গুলিকে চিহ্নিত করন
- B. পরিকল্পনার প্রয়োজন
- C. বিকল্প কার্যধারার মূল্যায়ন
- D. বিকল্পের নির্বাচন
- E. ক্ষেত্রগুলির উন্নয়ন

নীচের বিকল্পগুলি থেকে সঠিক উত্তর চিহ্নিত কর:

- 1. E, A, C, D, B
- 2. E, C, D, B, A
- 3. B, C, E, A, D
- 4. E, A, B, D, C

Options :

485584145841. 1
485584145842. 2
485584145843. 3
485584145844. 4

Question Number : 77 Question Id : 48558436462 Question Type : MCQ Option Shuffling : No Is Question Mandatory : No Calculator : None Response Time : N.A Think Time : N.A Minimum Instruction Time : 0

Correct Marks : 5 Wrong Marks : 1

Question Key Details :

| Key | Value |
|---------------|-------|
| Comprehension | MCQ |

Arrange the correct sequence of steps in Organizing process.

- A. Identification and division of work
- B. Establishing authority and reporting relationships
- C. Assignment of Duties
- D. Departmentalization

Choose the correct answer from the options given below :

- 1. B, C, A, D
- 2. D, A, B, C
- 3. C, B, D, A
- 4. A, D, C, B

Options :

485584145845. 1
485584145846. 2
485584145847. 3
485584145848. 4

Question Number : 77 Question Id : 48558436462 Question Type : MCQ Option Shuffling : No Is Question Mandatory : No Calculator : None Response Time : N.A Think Time : N.A Minimum Instruction Time : 0

Correct Marks : 5 Wrong Marks : 1

Question Key Details :

| Key | Value |
|---------------|-------|
| Comprehension | MCQ |

পরিকল্পনা সংগঠিত করা ধাপগুলিকে ক্রমানুযায়ী সাজাও

- A. কার্যক্রমের চিহ্নিতকরণ এবং বিভাজন
- B. মালিকানার প্রতিষ্ঠা এবং রিপোর্টিং সম্পর্ক
- C. দায়িত্ব অর্পন
- D. বিভাগীয় করণ

নীচের বিকল্পগুলি থেকে সঠিক উত্তর চিহ্নিত কর:

1. B, C, A, D
2. D, A, B, C
3. C, B, D, A
4. A, D, C, B

Options :

- 485584145845. 1
- 485584145846. 2
- 485584145847. 3
- 485584145848. 4

Question Number : 78 Question Id : 48558436463 Question Type : MCQ Option Shuffling : No Is Question Mandatory : No Calculator : None Response Time : N.A Think Time : N.A Minimum Instruction Time : 0

Correct Marks : 5 Wrong Marks : 1

Question Key Details :

| Key | Value |
|---------------|-------|
| Comprehension | MCQ |

Mr. Prateek, the Production Manager of Zim Ltd. has selected the right workforce for his department. He decides the following steps which he would adopt in the process of staffing. Arrange them in correct sequence

- A. Performance Appraisal
- B. Compensation
- C. Placement and Orientation
- D. Promotion and Career Planning
- E. Training and development

Choose the correct answer from the options given below :

1. C, A, E, D, B
2. B, C, D, A, E
3. D, A, B, E, C
4. C, E, A, D, B

Options :

- 485584145849. 1
- 485584145850. 2

485584145851. 3

485584145852. 4

Question Number : 78 Question Id : 48558436463 Question Type : MCQ Option Shuffling : No Is Question Mandatory : No Calculator : None Response Time : N.A Think Time : N.A Minimum Instruction Time : 0

Correct Marks : 5 Wrong Marks : 1

Question Key Details :

| Key | Value |
|---------------|-------|
| Comprehension | MCQ |

মিঃ প্রতীক, জিম লিমিটেডের প্রোডাকশান ম্যানেজার তিনি তার বিভাগের জন্য সঠিক কর্ম চাপ নির্বাচন করেছেন তিনি স্থির করেছেন সেই ধাপগুলো অনুসরণ করার যা তিনি কর্মী নিয়োগের পদ্ধতির দ্বারা শিখেছেন। এগুলিকে যথাযথ ক্রমে সাজাও

- A. কর্মক্ষমতা মূল্যায়ণ
- B. ক্ষতিপূরণ
- C. প্রেসমেন্ট এবং ওরিয়েন্টেশন
- D. পদোন্নতি এবং বৃত্তি পরিকল্পনা
- E. প্রশিক্ষন এবং উন্নতি

নিচের বিকল্পগুলি থেকে সঠিক উত্তর নির্বাচন কর:

- 1. C, A, E, D, B
- 2. B, C, D, A, E
- 3. D, A, B, E, C
- 4. C, E, A, D, B

Options :

485584145849. 1

485584145850. 2

485584145851. 3

485584145852. 4

Question Number : 79 Question Id : 48558436464 Question Type : MCQ Option Shuffling : No Is Question Mandatory : No Calculator : None Response Time : N.A Think Time : N.A Minimum Instruction Time : 0

Correct Marks : 5 Wrong Marks : 1

Question Key Details :

| Key | Value |
|---------------|-------|
| Comprehension | MCQ |

Arrange the steps of trading procedure of stock exchange in the correct sequence

- A. Delivering the shares
- B. Placing an Order
- C. Opening a Demat Account
- D. Execution of the order
- E. Settlement of transaction

Choose the correct answer from the options given below :

- 1. C, A, B, D, E
- 2. C, B, D, A, E
- 3. B, A, D, C, E
- 4. B, C, A, E, D

Options :

- 485584145853. 1
- 485584145854. 2
- 485584145855. 3
- 485584145856. 4

Question Number : 79 Question Id : 48558436464 Question Type : MCQ Option Shuffling : No Is Question Mandatory : No Calculator : None Response Time : N.A Think Time : N.A Minimum Instruction Time : 0

Correct Marks : 5 Wrong Marks : 1

Question Key Details :

| Key | Value |
|---------------|-------|
| Comprehension | MCQ |

স্টক এক্সচেঞ্জের সেটিং পদ্ধতি সঠিক ক্রমে সাজাও

- A. শেয়ার বিতরণ
- B. অর্ডার প্লেনিং বা স্থাপন করা
- C. একটি ডিম্যাট অ্যাকাউন্ট খোলনা
- D. অর্ডারের বাস্তবায়ন করা
- E. লেনদেনের নিষ্পত্তি

নিচের বিকল্পগুলি থেকে সঠিক উত্তর নির্বাচন কর:

- 1. C, A, B, D, E
- 2. C, B, D, A, E
- 3. B, A, D, A, E
- 4. B, C, A, E, D

Options :

- 485584145853. 1
- 485584145854. 2

485584145855. 3

485584145856. 4

Question Number : 80 Question Id : 48558436465 Question Type : MCQ Option Shuffling : No Is Question Mandatory : No Calculator : None Response Time : N.A Think Time : N.A Minimum Instruction Time : 0

Correct Marks : 5 Wrong Marks : 1

Question Key Details :

| Key | Value |
|---------------|-------|
| Comprehension | MCQ |

Arrange the following in proper sequence.

- A. Critical Point control and management by exception
- B. Performance should be measured in an objective and reliable manner
- C. Standards are set in both Quantitative as well as Qualitative terms
- D. Reveal the deviation between actual and desired results
- E. Taking corrective action

Choose the correct answer from the options given below :

- 1. A, B, C, D, E
- 2. E, D, C, B, A
- 3. C, B, D, A, E
- 4. A, C, B, E, D

Options :

485584145857. 1

485584145858. 2

485584145859. 3

485584145860. 4

Question Number : 80 Question Id : 48558436465 Question Type : MCQ Option Shuffling : No Is Question Mandatory : No Calculator : None Response Time : N.A Think Time : N.A Minimum Instruction Time : 0

Correct Marks : 5 Wrong Marks : 1

Question Key Details :

| Key | Value |
|---------------|-------|
| Comprehension | MCQ |

নিচের বিবৃতিগুলোকে সঠিক ক্রমে সাজাও-

- A. সমালোচনামূলক পয়েন্ট নিয়ন্ত্রণ এবং ব্যতিক্রম ব্যবস্থাপনা
- B. কর্ম ক্ষমতা মাপা উচিত বিষয়গত এবং নির্ভরযোগ্য পদ্ধতিতে
- C. গুণমান নির্ধারিত হবে পরিমাণ গত এবং গুণমানগতভাবে উভয় ক্ষেত্রে
- D. প্রকৃত এবং অভী ফলাফলের মধ্যে বিচ্যুতি প্রকাশ করা
- E. সংশোধনমূলক কার্যক্রম গ্রহণ করা

নিচের বিকল্পগুলি থেকে সঠিক উত্তর নির্বাচন কর:

- 1. A, B, C, D, E
- 2. E, D, C, B, A
- 3. C, B, D, A, E
- 4. A, C, B, E, D

Options :

- 485584145857. 1
- 485584145858. 2
- 485584145859. 3
- 485584145860. 4

Question Number : 81 Question Id : 48558436466 Question Type : MCQ Option Shuffling : No Is Question Mandatory : No Calculator : None Response Time : N.A Think Time : N.A Minimum Instruction Time : 0

Correct Marks : 5 Wrong Marks : 1

Question Key Details :

| Key | Value |
|---------------|-------|
| Comprehension | MCQ |

Identify the correct combinations of Principles of Management.

- A. Division of work and motion study
- B. Equity and scalar chain
- C. Authority and Responsibility and Method Study
- D. Discipline and Order
- E. Initiative and Fatigue Study

Choose the correct answer from the options given below :

- 1. B and D Only
- 2. A and D Only
- 3. B and E Only
- 4. C and E Only

Options :

- 485584145861. 1
- 485584145862. 2

485584145863. 3

485584145864. 4

Question Number : 81 Question Id : 48558436466 Question Type : MCQ Option Shuffling : No Is Question Mandatory : No Calculator : None Response Time : N.A Think Time : N.A Minimum Instruction Time : 0

Correct Marks : 5 Wrong Marks : 1

Question Key Details :

| Key | Value |
|---------------|-------|
| Comprehension | MCQ |

ম্যানেজমেন্টের নীতির সঠিক সমন্বয় চিহ্নিত কর

- A. বাজ় এবং গতি অধ্যয়নের বিভাজন
- B. ইক্যুয়িটি এবং ফেলার চেইন
- C. মালিকাল এবং দায়িত্বশীলতা এবং পদ্ধতি অধ্যয়ন
- D. শৃঙ্খলা এবং আদেশ ()
- E. উদ্যোগ এবং অবসাদ অধ্যয়ন

নিচের বিকল্পগুলি থেকে সঠিক উত্তর নির্বাচন কর:

1. B এবং D কেবলমাত্র
2. A এবং D কেবলমাত্র
3. B এবং E কেবলমাত্র
4. C এবং E কেবলমাত্র

Options :

485584145861. 1

485584145862. 2

485584145863. 3

485584145864. 4

Question Number : 82 Question Id : 48558436467 Question Type : MCQ Option Shuffling : No Is Question Mandatory : No Calculator : None Response Time : N.A Think Time : N.A Minimum Instruction Time : 0

Correct Marks : 5 Wrong Marks : 1

Question Key Details :

| Key | Value |
|---------------|-------|
| Comprehension | MCQ |

Which of the following are the sources of Recruitment for a newly set organization?

- A. Unskilled workers required for unskilled work provided by labour contractor
- B. Promotion to the higher post
- C. Websites such as www.naukri.com & jobstreet etc.
- D. Recommendations of employees
- E. Recruitment from educational institutions

Choose the correct answer from the options given below :

- 1. B Only
- 2. A, C and D Only
- 3. A, C & E Only
- 4. E Only

Options :

- 485584145865. 1
- 485584145866. 2
- 485584145867. 3
- 485584145868. 4

Question Number : 82 Question Id : 48558436467 Question Type : MCQ Option Shuffling : No Is Question Mandatory : No Calculator : None Response Time : N.A Think Time : N.A Minimum Instruction Time : 0

Correct Marks : 5 Wrong Marks : 1

Question Key Details :

| Key | Value |
|---------------|-------|
| Comprehension | MCQ |

এর মধ্যে কোণটি একটন নবাগত সংগঠনের কর্মী নিয়োগ পদ্ধতি

- A. অদক্ষ কাজের জন্য অদক্ষ শ্রমিক প্রয়োজন যা ঠিকাদার দেবেন
- B. উচ্চপে পদোন্নতি
- C. ওয়েব সাইট যেমন www.naukri.com এবং jobstreet ইত্যাদি
- D. কর্মীদের সুপারিশ
- E. শিক্ষা প্রতিষ্ঠান থেকে কর্মী নিয়োগ

নিচের বিকল্পগুলি থেকে সঠিক উত্তর নির্বাচন কর:

- 1. B কেবলমাত্র
- 2. A, C এবং D কেবলমাত্র
- 3. A, C, D, এবং E কেবলমাত্র
- 4. E কেবলমাত্র

Options :

- 485584145865. 1
- 485584145866. 2

485584145867. 3

485584145868. 4

Question Number : 83 Question Id : 48558436468 Question Type : MCQ Option Shuffling : No Is Question Mandatory : No Calculator : None Response Time : N.A Think Time : N.A Minimum Instruction Time : 0

Correct Marks : 5 Wrong Marks : 1

Question Key Details :

| Key | Value |
|---------------|-------|
| Comprehension | MCQ |

Which of the following statement/statements are not related with elements of Directing.

- A. Every manager in the organization supervise his/her subordinates
- B. It stimulates people to take up work voluntarily
- C. The process of influencing the behavior of people by making them strive voluntarily towards achievements of organizational goals
- D. Effective communication with subordinates
- E. Coordinating different functions of management

Choose the correct answer from the options given below :

- 1. E Only
- 2. A, B and D Only
- 3. D Only
- 4. B and C Only

Options :

485584145869. 1

485584145870. 2

485584145871. 3

485584145872. 4

Question Number : 83 Question Id : 48558436468 Question Type : MCQ Option Shuffling : No Is Question Mandatory : No Calculator : None Response Time : N.A Think Time : N.A Minimum Instruction Time : 0

Correct Marks : 5 Wrong Marks : 1

Question Key Details :

| Key | Value |
|---------------|-------|
| Comprehension | MCQ |

এর মধ্যে কোনটি পরচালনার উপাদানের সঙ্গে সম্পর্কযুক্ত নয়?

- A. সংগঠনের প্রতিটি ম্যানেজার তার অধীনস্থ কর্মচারীদের তদারকি করেন
- B. এটি মানুষকে স্বেচ্ছায় কাজ করতে উদ্দীপিত করে।
- C. সাংগঠনিক লক্ষ্য এবং কৃতিত্ব অর্জনের দিকে স্বেচ্ছায় এগিয়ে যাওয়ার জন্য মানুষের ব্যবহারকে অনুপ্রাণিত করার পদ্ধতি
- D. অধীনস্থ কর্মচারীদের সঙ্গে কার্যকরী যোগাযোগ
- E. ব্যবস্থাপনার বা ম্যানেজমেন্টের বিভিন্ন

নিচের বিকল্পগুলি থেকে সঠিক উত্তর নির্বাচন কর:

- 1. E কেবলমাত্র
- 2. A, B এবং D কেবলমাত্র
- 3. D কেবলমাত্র
- 4. B এবং C কেবলমাত্র

Options :

- 485584145869. 1
- 485584145870. 2
- 485584145871. 3
- 485584145872. 4

Question Number : 84 Question Id : 48558436469 Question Type : MCQ Option Shuffling : No Is Question Mandatory : No Calculator : None Response Time : N.A Think Time : N.A Minimum Instruction Time : 0

Correct Marks : 5 Wrong Marks : 1

Question Key Details :

| Key | Value |
|---------------|-------|
| Comprehension | MCQ |

Which of the following is not related with "Critical point of control" concept?

- A. Control should focus on key result areas
- B. KRA's can never be set as critical points
- C. It is very easy and economical to keep a check on each and every activity of organization
- D. If anything goes wrong at the critical points the entire organization suffers
- E. In manufacturing organization, an increase of 5% in labour cost may be more troublesome than a 15% increase in postal charges

Choose the correct answer from the options given below :

- 1. A Only
- 2. C & B Only
- 3. C Only
- 4. D & E Only

Options :

485584145873. 1
485584145874. 2
485584145875. 3
485584145876. 4

Question Number : 84 Question Id : 48558436469 Question Type : MCQ Option Shuffling : No Is Question Mandatory : No Calculator : None Response Time : N.A Think Time : N.A Minimum Instruction Time : 0

Correct Marks : 5 Wrong Marks : 1

Question Key Details :

| Key | Value |
|---------------|-------|
| Comprehension | MCQ |

এর মধ্যে কোনটি নিয়ন্ত্রণের গুরুত্বপূর্ণ পয়েন্ট এর গুরুত্বপূর্ণ পয়েন্ট এর ধারণার সঙ্গে সম্পর্কিত নয়?

- A. নিয়ন্ত্রণ মূল ফলাফলে স্থানে নিবন্ধ হওয়া উচিত
- B. KRA কে কখনই গুরুত্বপূর্ণ পয়েন্টের জায়গায় রাখা যায়
- C. সংগঠনের প্রতিটি কার্যক্রমে নজর দেওয়া অনায়াস এবং ব্যয় সংগত
- D. গুরুত্বপূর্ণ পয়েন্ট কোন কিছু ভুল হলে সমগ্র সংগঠনকে তার মাসুল দিতে হয়
- E. উৎপাদন সংস্থায় 5% শ্রমিক ব্যয় বৃদ্ধি 15% ডাক খরচ (পোস্টাল চার্জ) বৃদ্ধির থেকেও সমস্যাকর

নিচের বিকল্পগুলি থেকে সঠিক উত্তর নির্বাচন কর:

1. A কেবলমাত্র
2. C এবং B কেবলমাত্র
3. C কেবলমাত্র
4. D এবং E কেবলমাত্র

Options :

485584145873. 1
485584145874. 2
485584145875. 3
485584145876. 4

Question Number : 85 Question Id : 48558436470 Question Type : MCQ Option Shuffling : No Is Question Mandatory : No Calculator : None Response Time : N.A Think Time : N.A Minimum Instruction Time : 0

Correct Marks : 5 Wrong Marks : 1

Question Key Details :

| Key | Value |
|---------------|-------|
| Comprehension | MCQ |

What are the aspects of feasibility analysis under Entrepreneurship Development ?

- A. Technical Aspect
- B. Economic Aspect
- C. Financial Aspect
- D. Commercial Aspect
- E. Political Aspect

Choose the correct answer from the options given below :

1. A, B and C Only
2. A, B, D and E Only
3. A and B Only
4. A, B, C and D Only

Options :

- 485584145877. 1
- 485584145878. 2
- 485584145879. 3
- 485584145880. 4

Question Number : 85 Question Id : 48558436470 Question Type : MCQ Option Shuffling : No Is Question Mandatory : No Calculator : None Response Time : N.A Think Time : N.A Minimum Instruction Time : 0

Correct Marks : 5 Wrong Marks : 1

Question Key Details :

| Key | Value |
|---------------|-------|
| Comprehension | MCQ |

উদ্যোক্তা উন্নয়ের অধীনে সম্ভাব্যতা বিশ্লেষণের দিকগুলি কী কী ?

- A. প্রযুক্তগত দিক
- B. অর্থনৈতিক দিক
- C. বাণিজ্য দিক
- D. বানিজ্যিক দিক
- E. রাজনৈতিক দিক

নিচের বিকল্পগুলি থেকে সঠিক উত্তর নির্বাচন কর:

1. A, B এবং C কেবলমাত্র
2. A, B, D এবং E কেবলমাত্র
3. A এবং B কেবলমাত্র
4. A, B, C এবং D কেবলমাত্র

Options :

- 485584145877. 1
- 485584145878. 2

485584145879. 3

485584145880. 4

Question Number : 86 Question Id : 48558436471 Question Type : MCQ Option Shuffling : No Is Question Mandatory : No Calculator : None Response Time : N.A Think Time : N.A Minimum Instruction Time : 0

Correct Marks : 5 Wrong Marks : 1

Question Key Details :

| Key | Value |
|---------------|-------|
| Comprehension | MCQ |

Match List I with List II

| LIST I | | LIST II | |
|--------|---------------------------|---------|----------------------------|
| A. | Economic environment | I. | Legislations Passed |
| B. | Social environment | II. | Stock market Indices |
| C. | Technological environment | III. | New Methods and Techniques |
| D. | Legal environment | IV. | Traditions |

Choose the correct answer from the options given below:

1. A-IV, B-III, C-II, D-I

2. A-II, B-IV, C-III, D-I

3. A-II, B-III, C-IV, D-I

4. A-II, B-I, C-III, D-IV

Options :

485584145881. 1

485584145882. 2

485584145883. 3

485584145884. 4

Question Number : 86 Question Id : 48558436471 Question Type : MCQ Option Shuffling : No Is Question Mandatory : No Calculator : None Response Time : N.A Think Time : N.A Minimum Instruction Time : 0

Correct Marks : 5 Wrong Marks : 1

Question Key Details :

| Key | Value |
|---------------|-------|
| Comprehension | MCQ |

সারণী I এর সাথে সারণী II মেলাও

| সারণী I | | সারণী II | |
|---------|--------------------|----------|---------------------------|
| A. | অর্থনৈতিক পরিবেশ | I. | আইল পাস |
| B. | সামাজিক পরিবেশ | II. | শেয়ার বাজার |
| C. | প্রযুক্তিগত পরিবেশ | III. | নতুন পদ্ধতি এবং প্রযুক্তি |
| D. | আইনি পরিবেশ | IV. | ঐতিহাসমূহ |

নিচের বিকল্পগুলি থেকে সঠিক উত্তর নির্বাচন কর:

1. A-IV, B-III, C-II, D-I

2. A-II, B-IV, C-III, D-I

3. A-II, B-III, C-IV, D-I

4. A-II, B-I, C-III, D-IV

Options :

485584145881. 1

485584145882. 2

485584145883. 3

485584145884. 4

Question Number : 87 Question Id : 48558436472 Question Type : MCQ Option Shuffling : No Is Question Mandatory : No Calculator : None Response Time : N.A Think Time : N.A Minimum Instruction Time : 0

Correct Marks : 5 Wrong Marks : 1

Question Key Details :

| Key | Value |
|---------------|-------|
| Comprehension | MCQ |

Match List I with List II

| LIST I | | LIST II | |
|--------|------------|---------|-----------------------|
| A. | Objectives | I. | General Statements |
| B. | Strategy | II. | Routine steps |
| C. | Policy | III. | Comprehensive plan |
| D. | Procedure | IV. | End point of planning |

Choose the correct answer from the options given below:

1. A-IV, B-III, C-II, D-I

2. A-IV, B-II, C-III, D-I

3. A-IV, B-I, C-III, D-II

4. A-IV, B-III, C-I, D-II

Options :

485584145885. 1

485584145886. 2

485584145887. 3

Question Number : 87 Question Id : 48558436472 Question Type : MCQ Option Shuffling : No Is Question Mandatory : No Calculator : None Response Time : N.A Think Time : N.A Minimum Instruction Time : 0

Correct Marks : 5 Wrong Marks : 1

Question Key Details :

| Key | Value |
|---------------|-------|
| Comprehension | MCQ |

সারণী I এর সাথে সারণী II মেলাও

| সারণী I | | সারণী II | |
|---------|----------|----------|-----------------------|
| A. | উদ্দেশ্য | I. | সাধারণ বিবৃতি |
| B. | কৌশল | II. | কিটন পদক্ষেপ |
| C. | নীতি | III. | ব্যাপক পরিকল্পনা |
| D. | পদ্ধতি | IV. | পরিকল্পনার শেষ বিন্দু |

নিচের বিকল্পগুলি থেকে সঠিক উত্তর নির্বাচন কর:

1. A-IV, B-III, C-II, D-I

2. A-IV, B-II, C-III, D-I

3. A-IV, B-I, C-III, D-II

4. A-IV, B-III, C-I, D-II

Options :

485584145885. 1

485584145886. 2

485584145887. 3

485584145888. 4

Question Number : 88 Question Id : 48558436473 Question Type : MCQ Option Shuffling : No Is Question Mandatory : No Calculator : None Response Time : N.A Think Time : N.A Minimum Instruction Time : 0

Correct Marks : 5 Wrong Marks : 1

Question Key Details :

| Key | Value |
|---------------|-------|
| Comprehension | MCQ |

Match List I with List II

| LIST I (Controlling Process) | | LIST II (Related Concept) | |
|---------------------------------|-------------------------------------|------------------------------|--|
| A. | Analysing deviations | I. | It demands managerial attention |
| B. | Taking corrective action | II. | It becomes easy when quantitative terms are used |
| C. | Comparison of standard with actuals | III. | To determine acceptable range of deviations |
| D. | Setting performance standards | IV. | Serves as benchmarks towards which an organization strives to work |

Choose the correct answer from the options given below:

1. A-I, B-III, C-II, D-IV
2. A-III, B-I, C-II, D-IV
3. A-III, B-II, C-I, D-IV
4. A-IV, B-III, C-II, D-I

Options :

- 485584145889. 1
- 485584145890. 2
- 485584145891. 3
- 485584145892. 4

Question Number : 88 Question Id : 48558436473 Question Type : MCQ Option Shuffling : No Is Question Mandatory : No Calculator : None Response Time : N.A Think Time : N.A Minimum Instruction Time : 0

Correct Marks : 5 Wrong Marks : 1

Question Key Details :

| Key | Value |
|---------------|-------|
| Comprehension | MCQ |

সারণী I এর সাথে সারণী II মেলাও

| সারণী I (Controlling Process) | | সারণী II (Related Concept) | |
|----------------------------------|-------------------------------|-------------------------------|--|
| A. | বিচ্যুতি বিশ্লেষণ | I. | এটি ব্যবস্থাপনার মনোযোগে দাবী করে |
| B. | সংশোধনীমূলক কার্যক্রম গ্রহণ | II. | এটি সহজভাবে যায় যখন পরিমাণগত পদ (terms) ব্যবহার করা হয় |
| C. | বাস্তবের সঙ্গে মানের তুলনা | III. | বিচ্যুতির গ্রহণযোগ্য পরিসীমা নির্ধারণ করতে |
| D. | কার্যক্রমের মান নির্ধারণ করতে | IV. | এটি মানদণ্ড হিসাবে কাজ করে যে দিকে একটি সংগঠন করতে চায় |

নিচের বিকল্পগুলি থেকে সঠিক উত্তর নির্বাচন কর:

1. A-I, B-III, C-II, D-IV
2. A-III, B-I, C-II, D-IV
3. A-III, B-II, C-I, D-IV
4. A-IV, B-III, C-II, D-I

Options :

485584145889. 1
485584145890. 2
485584145891. 3
485584145892. 4

Question Number : 89 Question Id : 48558436474 Question Type : MCQ Option Shuffling : No Is Question Mandatory : No Calculator : None Response Time : N.A Think Time : N.A Minimum Instruction Time : 0

Correct Marks : 5 Wrong Marks : 1

Question Key Details :

| Key | Value |
|---------------|-------|
| Comprehension | MCQ |

Match List I with List II

| LIST I | | LIST II | |
|--------|-----------------------------|---------|-------------------|
| A. | Interest Coverage Ratio | I. | Rate of return |
| B. | Choice of Technique | II. | Fixed Capital |
| C. | Credit Allowed | III. | Capital structure |
| D. | Capital budgeting decisions | IV. | Working Capital |

Choose the correct answer from the options given below:

1. A-II, B-III, C-IV, D-I
2. A-III, B-II, C-I, D-IV
3. A-III, B-II, C-IV, D-I
4. A-II, B-IV, C-III, D-I

Options :

485584145893. 1
485584145894. 2
485584145895. 3
485584145896. 4

Question Number : 89 Question Id : 48558436474 Question Type : MCQ Option Shuffling : No Is Question Mandatory : No Calculator : None Response Time : N.A Think Time : N.A Minimum Instruction Time : 0

Correct Marks : 5 Wrong Marks : 1

Question Key Details :

| Key | Value |
|---------------|-------|
| Comprehension | MCQ |

সারণী I এর সাথে সারণী II মেলাও

| সারণী I | | সারণী II | |
|---------|-------------------------|----------|-------------------------|
| A. | সুদের কভারেজ অনুপাত | I. | রিটার্নের হার |
| B. | কৌশল পছন্দ | II. | স্থায়ী মূলধন |
| C. | ক্রেডিট অনুমোদিত | III. | ক্রেডিট অনুমোদিত |
| D. | মূলধন বাজেটিং সিদ্ধান্ত | IV. | মূলধন বাজেটিং সিদ্ধান্ত |

নিচের বিকল্পগুলি থেকে সঠিক উত্তর নির্বাচন কর:

1. A-II, B-III, C-IV, D-I
2. A-III, B-II, C-I, D-IV
3. A-III, B-II, C-IV, D-I
4. A-II, B-IV, C-III, D-I

Options :

485584145893. 1
485584145894. 2
485584145895. 3
485584145896. 4

Question Number : 90 Question Id : 48558436475 Question Type : MCQ Option Shuffling : No Is Question Mandatory : No Calculator : None Response Time : N.A Think Time : N.A Minimum Instruction Time : 0

Correct Marks : 5 Wrong Marks : 1

Question Key Details :

| Key | Value |
|---------------|-------|
| Comprehension | MCQ |

Match List I with List II

| LIST I | | LIST II | |
|--------|----------------------|---------|------------------------------------|
| A. | Shopping Products | I. | Cigarettes, Ice cream, Medicines |
| B. | Speciality Products | II. | Raw materials, Engines, Lubricants |
| C. | Industrial Products | III. | Radio, Jewellery, Furniture |
| D. | Convenience Products | IV. | Salon, Restaurant, Boutique |

Choose the correct answer from the options given below:

1. A-I, B-II, C-IV, D-III
2. A-III, B-I, C-II, D-IV
3. A-III, B-IV, C-II, D-I
4. A-IV, B-III, C-II, D-I

Options :

485584145897. 1
485584145898. 2
485584145899. 3
485584145900. 4

Question Number : 90 Question Id : 48558436475 Question Type : MCQ Option Shuffling : No Is Question Mandatory : No Calculator : None Response Time : N.A Think Time : N.A Minimum Instruction Time : 0

Correct Marks : 5 Wrong Marks : 1

Question Key Details :

| Key | Value |
|---------------|-------|
| Comprehension | MCQ |

সারগী I এর সাথে সারগী II মেলাও

| সারগী I | | সারগী II | |
|---------|--|----------|------------------------------------|
| A. | শপিং প্রোডাক্ট | I. | সিগারেট, আইসক্রিম, ও ঔষুধপত্র |
| B. | বিশেষ পণ্য | II. | কাঁচামাল, ইঞ্জিন, লুব্রিক্যান্ট |
| C. | শিল্প পণ্য | III. | রেডিও, গহনা, আসাবপত্র |
| D. | সাধারণ পণ্য বা কনভেনিয়েন্স প্রোডাক্ট | IV. | সেলুন, রেক্তোরা, বাটিক |

নিচের বিকল্পগুলি থেকে সঠিক উত্তর নির্বাচন কর:

1. A-I, B-II, C-IV, D-III

2. A-III, B-I, C-II, D-IV

3. A-III, B-IV, C-II, D-I

4. A-IV, B-III, C-II, D-I

Options :

485584145897. 1

485584145898. 2

485584145899. 3

485584145900. 4

Sub-Section Number :

2

Sub-Section Id :

4855842694

Question Shuffling Allowed :

No

Is Section Default? :

null

Question Number : 91 Question Id : 48558436476 Question Type : MCQ Option Shuffling : No Is Question Mandatory : No Calculator : None Response Time : N.A Think Time : N.A Minimum Instruction Time : 0

Correct Marks : 5 Wrong Marks : 1

Question Key Details :

| Key | Value |
|---------------|-------|
| Comprehension | Comp1 |

Mr. Rehan has done a diploma in Financial market and its participants. Recently he got a chance to present his knowledge and train students in a school. He told students about various money market instruments. He mentioned about an instrument which is issued by R.B.I on behalf of Central Government. He told students that Banks use a system to borrow money (an instrument) to manage their CRR i.e Cash Reserve Ratio. Later, he mentioned a short term self liquidating instrument like Bills of Exchange that can be used for arranging working capital. He also told students about an instrument that helps to mobilise large amounts of money in short period by commercial banks. Lastly, Mr. Rehan spoke about an instrument that works as a replacement towards bank borrowing for large credit-worthy companies, its maturity period is 15 days to one year.

"He mentioned about an Instrument which is issued by RBI on behalf of Central Government" .

Identify the Money instrument to which the above given line is related to.

1. Call money
2. Commercial Papers
3. Treasury Bills
4. Commercial Bills

Options :

485584145901. 1
485584145902. 2
485584145903. 3
485584145904. 4

Question Number : 91 Question Id : 48558436476 Question Type : MCQ Option Shuffling : No Is Question Mandatory : No Calculator : None Response Time : N.A Think Time : N.A Minimum Instruction Time : 0

Correct Marks : 5 Wrong Marks : 1

Question Key Details :

| Key | Value |
|---------------|-------|
| Comprehension | Comp1 |

মিঃ রেহান একটি ডিস্লামা করেছেন ফিন্যান্সিয়াল মার্কেট ও তার অংশ গ্রহণকারীদের ওপর, সাম্প্রতিক কালে তিনি তার একটি বিদ্যালয়ের ছাত্রদের প্রশিক্ষণ দেওয়ার ও তার জ্ঞান বিতরণ করার একটু সুযোগ পেয়েছেন। তিনি তার ছাত্রদের আর্থিক বাজারের বিভিন্ন উপাদান সম্পর্কে বলেছেন তিনি কেন্দ্রীয় সরকারের পক্ষ থেকে RBI দ্বারা উত্থাপিত একটি উপাদানের কথাও উল্লেখ করেছেন। তিনি বলেছেন ছাত্রদের যে ব্যাঙ্ক একটি পদ্ধতি ব্যবহার করে CRI, i.e. অর্থ সংরক্ষণ অনুপাত পরিচালনা করতে অর্থ লগ্নি করে। পরে তিনি উল্লেখ করেছেন যে একটি স্বল্প সময়ের সেন্স লিবুইডোটি ইন্সট্রুমেন্ট যেমন বিনিময়ের বিল (Bill of Exchange) ব্যবহার করা যেতে পারে কার্যকরী মূলধন যোগান্ড করতে, তিনি তার ছাত্রদের আরও বলেছেন একটি উপাদান সম্পর্কে যা বাণিজ্যিক ব্যাঙ্ক থেকে স্বল্প সময়ের মধ্যে পূঁর পরিমাণে অর্থ লগ্নি করতে সাহায্য করে। অবশেষে মিঃ রেহান কথা বলেছেন একটি উপাদান সম্পর্কে যা বৃহৎ ক্রেডিট যোগ্য কোম্পানিগুলির জন্য ব্যাঙ্ক ঋণের প্রতিস্থাপক হিসাবে কাজ করে এটির ম্যাচুরিটির সময়কাল 15 দিন থেকে এক বছর পর্যন্ত হয়।

"তিনি উল্লেখ করেছেন একটি উৎপাদনের যা কেন্দ্রীয় সরকারেরপক্ষ থেকে RBI দ্বারা উত্থাপিত হয়" .

নিচের আর্থিক উপাদানটিকে চিহ্নিত কর যেটিতে ওপরের প্রদত্ত লাইনটি সম্পর্কিত হয়

1. কল মানি
2. বানিজ্যিক কাগপত্র
3. ট্রেজারি বিল
4. বাণিজ্যিক বিল

Options :

485584145901. 1
485584145902. 2
485584145903. 3

Question Number : 92 Question Id : 48558436477 Question Type : MCQ Option Shuffling : No Is Question Mandatory : No Calculator : None Response Time : N.A Think Time : N.A Minimum Instruction Time : 0

Correct Marks : 5 Wrong Marks : 1

Question Key Details :

| Key | Value |
|---------------|-------|
| Comprehension | Comp1 |

Mr. Rehan has done a diploma in Financial market and its participants. Recently he got a chance to present his knowledge and train students in a school. He told students about various money market instruments. He mentioned about an instrument which is issued by R.B.I on behalf of Central Government. He told students that Banks use a system to borrow money (an instrument) to manage their CRR i.e Cash Reserve Ratio. Later, he mentioned a short term self liquidating instrument like Bills of Exchange that can be used for arranging working capital. He also told students about an instrument that helps to mobilise large amounts of money in short period by commercial banks. Lastly, Mr. Rehan spoke about an instrument that works as a replacement towards bank borrowing for large credit-worthy companies, its maturity period is 15 days to one year.

He told that Banks use a system to borrow money (an instrument) to manage their cash Reserve Ratio.

Which security amongst money market Instrument is mentioned here.

1. Call money
2. Commercial papers
3. Treasury bills
4. Commercial Bills

Options :

485584145905. 1
 485584145906. 2
 485584145907. 3
 485584145908. 4

Question Number : 92 Question Id : 48558436477 Question Type : MCQ Option Shuffling : No Is Question Mandatory : No Calculator : None Response Time : N.A Think Time : N.A Minimum Instruction Time : 0

Correct Marks : 5 Wrong Marks : 1

Question Key Details :

| Key | Value |
|---------------|-------|
| Comprehension | Comp1 |

মিঃ রেহান একটি ডিপ্লোমা করেছেন ফিন্যান্সিয়াল মার্কেট ও তার অংশ গ্রহণকারীদের ওপর, সাম্প্রতিক কালে তিনি তার একটি বিদ্যালয়ের ছাত্রদের প্রশিক্ষণ দেওয়ার ও তার জ্ঞান বিতরণ করার একটু সুযোগ পেয়েছেন। তিনি তার ছাত্রদের আর্থিক বাজারের বিভিন্ন উপাদান সম্পর্কে বলেছেন তিনি কেন্দ্রীয় সরকারের পক্ষ থেকে RBI দ্বারা উত্থাপিত একটি উপাদানের কথাও উল্লেখ করেছেন। তিনি বলেছেন ছাত্রদের যে ব্যাঙ্ক একটি পদ্ধতি ব্যবহার করে CRR i.e. অর্থ সংরক্ষণ অনুপাত পরিচালনা করতে অর্থ লগ্নি করে। পরে তিনি উল্লেখ করেছেন যে একটি স্বল্প সময়ের সেন্স লিবুইড্রোটি ইন্সট্রুমেন্ট যেমন বিনিময়ের বিল (Bill of Exchange) ব্যবহার করা যেতে পারে কার্যকরী মূলধন যোগান্ড করতে, তিনি তার ছাত্রদের আরও বলেছেন একটি উপাদান সম্পর্কে যা বাণিজ্যিক ব্যাঙ্ক থেকে স্বল্প সময়ের মধ্যে পূঁর পরিমাণে অর্থ লগ্নি করতে সাহায্য করে। অবশেষে মিঃ রেহান কথা বলেছেন একটি উপাদান সম্পর্কে যা বৃহৎ ক্রেডিট যোগ্য কোম্পানিগুলির জন্য ব্যাঙ্ক ঋণের প্রতিস্থাপক হিসাবে কাজ করে এটির ম্যাচুরিটির সময়কাল 15 দিন থেকে এক বছর পর্যন্ত হয়।

তিনি বলেছিলেন ব্যাঙ্ক ব্যাস রিজার্ভ অনুপাত পরিচালনা করার জন্য অর্থলগ্নীর ক্ষেত্রে একটি বিশেষ পদ্ধতি (একটি উপাদান) ব্যবহার করে।

অর্থ বাজারের উপাদান গুলির মধ্যে কোন নিরাপত্তার কথা এখানে উল্লেখ করা হয়েছে

1. কল মানি
2. বাণিজ্যিক কাগজপত্র
3. ট্রেজারি বিল
4. বানিজ্যিক বিল

Options :

485584145905. 1
 485584145906. 2
 485584145907. 3
 485584145908. 4

Question Number : 93 Question Id : 48558436478 Question Type : MCQ Option Shuffling : No Is Question Mandatory : No Calculator : None Response Time : N.A Think Time : N.A Minimum Instruction Time : 0

Correct Marks : 5 Wrong Marks : 1

Question Key Details :

| Key | Value |
|---------------|-------|
| Comprehension | Comp1 |

Mr. Rehan has done a diploma in Financial market and its participants. Recently he got a chance to present his knowledge and train students in a school. He told students about various money market instruments. He mentioned about an instrument which is issued by R.B.I on behalf of Central Government. He told students that Banks use a system to borrow money (an instrument) to manage their CRR i.e Cash Reserve Ratio. Later, he mentioned a short term self liquidating instrument like Bills of Exchange that can be used for arranging working capital. He also told students about an instrument that helps to mobilise large amounts of money in short period by commercial banks. Lastly, Mr. Rehan spoke about an instrument that works as a replacement towards bank borrowing for large credit-worthy companies, its maturity period is 15 days to one year.

"A short term self liquidating like Bills of Exchange than can be used for arranging working capital".

Which Money Market instrument, was Mr. Rehan referring to?

1. Call money
2. Certificate of Deposit
3. Commercial bills
4. Commercial papers

Options :

485584145909. 1
485584145910. 2
485584145911. 3
485584145912. 4

Question Number : 93 Question Id : 48558436478 Question Type : MCQ Option Shuffling : No Is Question Mandatory : No Calculator : None Response Time : N.A Think Time : N.A Minimum Instruction Time : 0

Correct Marks : 5 Wrong Marks : 1

Question Key Details :

| Key | Value |
|---------------|-------|
| Comprehension | Comp1 |

মিঃ রেহান একটি ডিস্লেমা করেছেন ফিন্যান্সিয়াল মার্কেট ও তার অংশ গ্রহণকারীদের ওপর, সাম্প্রতিক কালে তিনি তার একটি বিদ্যালয়ে ছাত্রদের প্রশিক্ষণ দেওয়ার ও তার জ্ঞান বিতরণ করার একটু সুযোগ পেয়েছেন। তিনি তার ছাত্রদের আর্থিক বাজারের বিভিন্ন উপাদান সম্পর্কে বলেছেন তিনি কেন্দ্রীয় সরকারের পক্ষ থেকে RBI দ্বারা উত্থাপিত একটি উপাদানের কথাও উল্লেখ করেছেন। তিনি বলেছেন ছাত্রদের যে ব্যাঙ্ক একটি পদ্ধতি ব্যবহার করে CRI, i.e. অর্থ সংরক্ষণ অনুপাত পরিচালনা করতে অর্থ লগ্নি করে। পরে তিনি উল্লেখ করেছেন যে একটি স্বল্প সময়ের সেক্ষ লিকুইডিটি ইন্সট্রুমেন্ট যেমন বিনিময়ের বিল (Bill of Exchange) ব্যবহার করা যেতে পারে কার্যকরী মূলধন যোগান্ড করতে, তিনি তার ছাত্রদের আরও বলেছেন একটি উপাদান সম্পর্কে যা বাণিজ্যিক ব্যাঙ্ক থেকে স্বল্প সময়ের মধ্যে পড়ুর পরিমাণে অর্থ লগ্নি করতে সাহায্য করে। অবশেষে মিঃ রেহান কথা বলেছেন একটি উপাদান সম্পর্কে যা বৃহৎ ক্রেডিট যোগ্য কোম্পানিগুলির জন্য ব্যাঙ্ক ঋণের প্রতিস্থাপক হিসাবে কাজ করে এটির ম্যাচুরিটির সময়কাল 15 দিন থেকে এক বছর পর্যন্ত হয়।

"স্বল্প সময়ের পরিসরে সেক্ষ লিকুইডিটিং যেমন বিনিময়ের বিল ব্যবহার করা যেতে পারে কার্যকরী মূলধন যোগানের জন্য।

মিঃ রেহান আর্থিক বাজারের কোন উপাদানের কথা বলেছেন?

1. কল মানি
2. আমানতের সংশাপত্র
3. বাণিজ্যিক বিল
4. বাণিজ্যিক কাগজপত্র

Options :

485584145909. 1

485584145910. 2
485584145911. 3
485584145912. 4

Question Number : 94 Question Id : 48558436479 Question Type : MCQ Option Shuffling : No Is Question Mandatory : No Calculator : None Response Time : N.A Think Time : N.A Minimum Instruction Time : 0

Correct Marks : 5 Wrong Marks : 1

Question Key Details :

| Key | Value |
|---------------|-------|
| Comprehension | Comp1 |

Mr. Rehan has done a diploma in Financial market and its participants. Recently he got a chance to present his knowledge and train students in a school. He told students about various money market instruments. He mentioned about an instrument which is issued by R.B.I on behalf of Central Government. He told students that Banks use a system to borrow money (an instrument) to manage their CRR i.e Cash Reserve Ratio. Later, he mentioned a short term self liquidating instrument like Bills of Exchange that can be used for arranging working capital. He also told students about an instrument that helps to mobilise large amounts of money in short period by commercial banks. Lastly, Mr. Rehan spoke about an instrument that works as a replacement towards bank borrowing for large credit-worthy companies, its maturity period is 15 days to one year.

"An instrument that helps to mobilise large amounts of money in short period by commercial banks".

Identify the money market instrument stated above :

1. Certificate of Deposit
2. Call money
3. Commercial bills
4. Treasury bills

Options :

485584145913. 1
485584145914. 2
485584145915. 3
485584145916. 4

Question Number : 94 Question Id : 48558436479 Question Type : MCQ Option Shuffling : No Is Question Mandatory : No Calculator : None Response Time : N.A Think Time : N.A Minimum Instruction Time : 0

Correct Marks : 5 Wrong Marks : 1

Question Key Details :

| Key | Value |
|---------------|-------|
| Comprehension | Comp1 |

মিঃ রেহান একটি ডিপ্লোমা করেছেন ফিন্যান্সিয়াল মার্কেট ও তার অংশ গ্রহণকারীদের ওপর, সাম্প্রতিক কালে তিনি তার একটি বিদ্যালয়ের ছাত্রদের প্রশিক্ষণ দেওয়ার ও তার জ্ঞান বিতরণ করার একটু সুযোগ পেয়েছেন। তিনি তার ছাত্রদের আর্থিক বাজারের বিভিন্ন উপাদান সম্পর্কে বলেছেন তিনি কেন্দ্রীয় সরকারের পক্ষ থেকে RBI দ্বারা উত্থাপিত একটি উপাদানের কথাও উল্লেখ করেছেন। তিনি বলেছেন ছাত্রদের যে ব্যাঙ্ক একটি পদ্ধতি ব্যবহার করে CRR i.e. অর্থ সংরক্ষণ অনুপাত পরিচালনা করতে অর্থ লগ্নি করে। পরে তিনি উল্লেখ করেছেন যে একটি স্বল্প সময়ের সেন্স লিবুইড্রোটি ইস্যুইন্সট্রুমেন্ট যেমন বিনিময়ের বিল (Bill of Exchange) ব্যবহার করা যেতে পারে কার্যকরী মূলধন যোগান্ড করতে, তিনি তার ছাত্রদের আরও বলেছেন একটি উপাদান সম্পর্কে যা বাণিজ্যিক ব্যাঙ্ক থেকে স্বল্প সময়ের মধ্যে পূঁর পরিমাণে অর্থ লগ্নি করতে সাহায্য করে। অবশেষে মিঃ রেহান কথা বলেছেন একটি উপাদান সম্পর্কে যা বৃহৎ ক্রেডিট যোগ্য কোম্পানিগুলির জন্য ব্যাঙ্ক ঋণের প্রতিস্থাপক হিসাবে কাজ করে এটির ম্যাচুরিটির সময়কাল 15 দিন থেকে এক বছর পর্যন্ত হয়।

"একটি উপাদান যা বিপুল পরিমাণ অর্থ সংগ্রহ করতে সাহায্য করে স্বল্প সময়ের পরিসরে বাণিজ্যিক ব্যাঙ্ক দ্বারা

উপরে উল্লিখিত আর্থিক বাজারের উপাদানকে চিহ্নিত করুন :

1. আমানতের সংশাপত্র
2. কল মানি
3. বাণিজ্যিক বিল
4. ট্রেজারি বিল

Options :

485584145913. 1
 485584145914. 2
 485584145915. 3
 485584145916. 4

Question Number : 95 Question Id : 48558436480 Question Type : MCQ Option Shuffling : No Is Question Mandatory : No Calculator : None Response Time : N.A Think Time : N.A Minimum Instruction Time : 0

Correct Marks : 5 Wrong Marks : 1

Question Key Details :

| Key | Value |
|---------------|-------|
| Comprehension | Comp1 |

Mr. Rehan has done a diploma in Financial market and its participants. Recently he got a chance to present his knowledge and train students in a school. He told students about various money market instruments. He mentioned about an instrument which is issued by R.B.I on behalf of Central Government. He told students that Banks use a system to borrow money (an instrument) to manage their CRR i.e Cash Reserve Ratio. Later, he mentioned a short term self liquidating instrument like Bills of Exchange that can be used for arranging working capital. He also told students about an instrument that helps to mobilise large amounts of money in short period by commercial banks. Lastly, Mr. Rehan spoke about an instrument that works as a replacement towards bank borrowing for large credit-worthy companies, its maturity period is 15 days to one year.

"An instrument that works as a replacement towards bank borrowing for large Credit-worthy companies, its maturity period is 15 days to one year".

Identify the money market instrument stated in the above lines.

1. Call money
2. Commercial papers
3. Commercial bills
4. Certificate of Deposit

Options :

485584145917. 1
485584145918. 2
485584145919. 3
485584145920. 4

Question Number : 95 Question Id : 48558436480 Question Type : MCQ Option Shuffling : No Is Question Mandatory : No Calculator : None Response Time : N.A Think Time : N.A Minimum Instruction Time : 0

Correct Marks : 5 Wrong Marks : 1

Question Key Details :

| Key | Value |
|---------------|-------|
| Comprehension | Comp1 |

মিঃ রেহান একটি ডিস্কাউন্ট মার্কেট ও তার অংশ গ্রহণকারীদের ওপর, সাম্প্রতিক কালে তিনি তার একটি বিদ্যালয়ের ছাত্রদের প্রশিক্ষণ দেওয়ার ও তার জ্ঞান বিতরণ করার একটু সুযোগ পেয়েছেন। তিনি তার ছাত্রদের আর্থিক বাজারের বিভিন্ন উপাদান সম্পর্কে বলেছেন তিনি কেন্দ্রীয় সরকারের পক্ষ থেকে RBI দ্বারা উদ্ভাবিত একটি উপাদানের কথাও উল্লেখ করেছেন। তিনি বলেছেন ছাত্রদের যে ব্যাঙ্ক একটি পদ্ধতি ব্যবহার করে CRL i.e. অর্থ সংরক্ষণ অনুপাত পরিচালনা করতে অর্থ লগ্নি করে। পরে তিনি উল্লেখ করেছেন যে একটি স্বল্প সময়ের সল্ট লিবুইডোটি ইন্সট্রুমেন্ট যেমন বিনিময়ের বিল (Bill of Exchange) ব্যবহার করা যেতে পারে কার্যকরী মূলধন যোগান্ড করতে, তিনি তার ছাত্রদের আরও বলেছেন একটি উপাদান সম্পর্কে যা বাণিজ্যিক ব্যাঙ্ক থেকে স্বল্প সময়ের মধ্যে পূর্ণ পরিমাণে অর্থ লগ্নি করতে সাহায্য করে। অবশেষে মিঃ রেহান কথা বলেছেন একটি উপাদান সম্পর্কে যা বৃহৎ ক্রেডিট যোগ্য কোম্পানিগুলির জন্য ব্যাঙ্ক ঋণের প্রতিস্থাপক হিসাবে কাজ করে এটির ম্যাচুরিটির সময়কাল 15 দিন থেকে এক বছর পর্যন্ত হয়।

"একটি উপাদান যা বৃহৎ ক্রেডিট যোগ্য কোম্পানিগুলির জন্য ব্যাঙ্কের ঋণের প্রতিস্থাপক হিসাবে কাজ করে, এটির ম্যাচুরিটির সময়কাল 15 দিন থেকে এক বছর".

উপরোক্ত চরণে কোন আর্থিক বাজারের কোন উপাদানের কথা বলা হয়েছে তা চিহ্নিত কর-

1. কল মানি
2. বাণিজ্যিক কাগজপত্র
3. বাণিজ্যিক বিল
4. আমানতের সংশাপত্র

Options :

485584145917. 1
485584145918. 2
485584145919. 3
485584145920. 4

Sub-Section Number : 3
Sub-Section Id : 4855842695
Question Shuffling Allowed : No
Is Section Default? : null

Question Number : 96 Question Id : 48558436481 Question Type : MCQ Option Shuffling : No Is Question Mandatory : No Calculator : None Response Time : N.A Think Time : N.A Minimum Instruction Time : 0

Correct Marks : 5 Wrong Marks : 1

Question Key Details :

| Key | Value |
|---------------|-------|
| Comprehension | Comp2 |

Safex Ltd is a company manufacturing masks. The newly appointed marketing manager of the firm has taken 'Covid Pandemic' as an opportunity to increase sales. He used a combination of tools to achieve its communication objective. He constituted 4 teams for designing these tools.

Team 1 :- The tool used by them was an impersonal form of communication which was paid for.

Team 2:- The tool used by them involves oral presentation of message in the form of conversation with one or more prospective customers for the purpose of making sales

Team 3:- This team used short-term incentives which were designed to encourage the buyers to make immediate purchase.

Team 4:- This team used a non-personal form of communication which was non-paid.

All the teams successfully designed their tools and achieved their desired results.

The variable of marketing mix discussed in the above case is _____

1. Product mix
2. Place mix
3. Price mix
4. Promotion mix

Options :

485584145921. 1
485584145922. 2
485584145923. 3
485584145924. 4

Question Number : 96 Question Id : 48558436481 Question Type : MCQ Option Shuffling : No Is Question Mandatory : No Calculator : None Response Time : N.A Think Time : N.A Minimum Instruction Time : 0

Correct Marks : 5 Wrong Marks : 1

Question Key Details :

| Key | Value |
|---------------|-------|
| Comprehension | Comp2 |

স্যাক্সেস লিমিটেড হল মাথু যা মুখোশ প্রযুক্তিকারক একটি কোম্পানী, একজন সদ্য নিযুক্ত মার্কেটিং ম্যানেজার কোভিড অভিনারীকে বিক্রয় বাড়ানোর একটি সুযোগ হিসাবে গ্রহণ করেছেন। তিনি কয়েকটি সরঞ্জামের সংশ্লিষ্ট ব্যবহার করেছেন যোগাযোগের উদ্দেশ্যে অর্জন করার জন্য। তিনি চারটি দল গঠন করেছেন এই সরঞ্জামগুলিকে সাজানোর জন্য।

1 নং দলঃ তাদের দ্বারা ব্যবহৃত সরঞ্জামটি ছিল যোগাযোগের একটি নৈর্ব্যক্তিক রূপ যার জন্য অর্থ প্রদান করা হতো।

2 নং দলঃ তারা যে সরঞ্জামটি ব্যবহার করেছে তা একাধিক সম্ভাব্য গ্রাহকদের সাথে কথোপকথনের আকারে মৌখিকভাবে ম্যাসেজের উপস্থাপনা দ্বারা বিক্রয় করার উদ্দেশ্যে গঠিত।

3 নং দলঃ এই দলটি স্বল্প মেয়াদী প্রচারণা ব্যবহার করেছে যা ফ্রেজদের অবিলম্বে ক্রয় করতে উৎসাহিত করার জন্য সাজানো হয়েছিল।

4 নং দলঃ এই দলটি একটি অ-ব্যক্তিগত ধারা ব্যবহার করছিল যা বিলাসুল্য।

সমস্ত দলগুলি সাফল্যের সঙ্গে তাদের সরঞ্জামকে সাজিয়েছিল এবং আকাঙ্ক্ষিত লক্ষ্যকে অর্জন করেছিল।

উপরোক্ত ঘটনায় বিপণন মিশ্রণের যে আলোচনা আছে তা হল _____

1. বিপণনের মিশ্রণ
2. স্থানের মিশ্রণ
3. মূল্যের মিশ্রণ
4. প্রচারের মিশ্রণ

Options :

485584145921. 1
485584145922. 2
485584145923. 3
485584145924. 4

Question Number : 97 Question Id : 48558436482 Question Type : MCQ Option Shuffling : No Is Question Mandatory : No Calculator : None Response Time : N.A Think Time : N.A Minimum Instruction Time : 0

Correct Marks : 5 Wrong Marks : 1

Question Key Details :

| Key | Value |
|---------------|-------|
| Comprehension | Comp2 |

Safex Ltd is a company manufacturing masks. The newly appointed marketing manager of the firm has taken 'Covid Pandemic' as an opportunity to increase sales. He used a combination of tools to achieve its communication objective. He constituted 4 teams for designing these tools.

Team 1 :- The tool used by them was an impersonal form of communication which was paid for.

Team 2:- The tool used by them involves oral presentation of message in the form of conversation with one or more prospective customers for the purpose of making sales

Team 3:- This team used short-term incentives which were designed to encourage the buyers to make immediate purchase.

Team 4:- This team used a non-personal form of communication which was non-paid.

All the teams successfully designed their tools and achieved their desired results.

The tool used by Team 3 was _____

1. Public relations
2. Sales promotion
3. Publicity
4. Branding

Options :

- 485584145925. 1
- 485584145926. 2
- 485584145927. 3
- 485584145928. 4

Question Number : 97 Question Id : 48558436482 Question Type : MCQ Option Shuffling : No Is Question Mandatory : No Calculator : None Response Time : N.A Think Time : N.A Minimum Instruction Time : 0

Correct Marks : 5 Wrong Marks : 1

Question Key Details :

| Key | Value |
|---------------|-------|
| Comprehension | Comp2 |

স্যাক্সেস লিমিটেড হল মাথু যা মুখোশ প্রবুডকারক একটি কোম্পানী, একজন সদ্য নিযুক্ত মার্কেটিং ম্যানেজার কোভিড অভিনারীকে বিক্রয় বাডানোর একটি সুযোগ হিসাবে গ্রহণ করেছেন। তিনি কয়েকটি সরঞ্জামের সংশ্লিষ্টকে ব্যবহার করেছেন যোগাযোগের উদ্দেশ্যে অর্জন করার জন্যতিনি চারটি দল গঠন করেছেন এই সরঞ্জামগুলিকে সাজানোর জন্য।

1 নং দলঃ তাদের দ্বারা ব্যবহৃত সরঞ্জামটি ছিল যোগাযোগের একটি নৈর্ব্যক্তিক রূপ যার জন্য অর্থ প্রদান করা হতোছিল।

2 নং দলঃ তারা যে সরঞ্জামটি ব্যবহার করেছে তা একাধিক সম্ভাব্য গ্রাহকদের সাথে কথাপোকথনের আকারে মৌখিকভাবে ম্যাসেজের উপস্থাপনা দ্বারা বিক্রয় করার উদ্দেশ্যে গঠিত।

3 নং দলঃ এই দলটি স্বল্প মেয়াদী প্রণোদনা ব্যবহার করেছে যা ফ্রেজদের অবিলম্বে ক্রয় করতে উৎসাহিত করার জন্য সাজানো হতোছিল

4 নং দলঃ এই দলটি একটি অ-ব্যক্তিগত ধারা ব্যবহার করছিল যা বিনামূল্যে।

সমস্ত দলগুলি সাফল্যের সঙ্গে তাদের সরঞ্জামকে সাজিয়েছিল এবং আকাঙ্ক্ষিত লক্ষ্যকে অর্জন করেছিল।

3 নং দল যে সরঞ্জামটি ব্যবহার করেছে তা হল _____

1. পাবলিক রিলেশন/জনসংযোগে
2. সেলস প্রমোশন/বিক্রয়ের প্রচার
3. প্রচার/পাবলিসিটি
4. ব্র্যান্ডিং

Options :

485584145925. 1
485584145926. 2
485584145927. 3
485584145928. 4

Question Number : 98 Question Id : 48558436483 Question Type : MCQ Option Shuffling : No Is Question Mandatory : No Calculator : None Response Time : N.A Think Time : N.A Minimum Instruction Time : 0

Correct Marks : 5 Wrong Marks : 1

Question Key Details :

| Key | Value |
|---------------|-------|
| Comprehension | Comp2 |

Safex Ltd is a company manufacturing masks. The newly appointed marketing manager of the firm has taken 'Covid Pandemic' as an opportunity to increase sales. He used a combination of tools to achieve its communication objective. He constituted 4 teams for designing these tools.

Team 1 :- The tool used by them was an impersonal form of communication which was paid for.

Team 2:- The tool used by them involves oral presentation of message in the form of conversation with one or more prospective customers for the purpose of making sales

Team 3:- This team used short-term incentives which were designed to encourage the buyers to make immediate purchase.

Team 4:- This team used a non-personal form of communication which was non-paid.

All the teams successfully designed their tools and achieved their desired results.

The tool used by Team 4 is _____

1. Packaging
2. Advertising
3. Publicity
4. Sales promotion

Options :

- 485584145929. 1
- 485584145930. 2
- 485584145931. 3
- 485584145932. 4

Question Number : 98 Question Id : 48558436483 Question Type : MCQ Option Shuffling : No Is Question Mandatory : No Calculator : None Response Time : N.A Think Time : N.A Minimum Instruction Time : 0

Correct Marks : 5 Wrong Marks : 1

Question Key Details :

| Key | Value |
|---------------|-------|
| Comprehension | Comp2 |

স্যাক্স লিমিটেড হল মাথু যা মুখোশ প্রবুডকারক একটি কোম্পানী, একজন সদ্য নিযুক্ত মার্কেটিং ম্যানেজার কোভিড অভিনারীকে বিক্রয় বাডালোর একটি সুযোগ হিসাবে গ্রহণ করেছেন। তিনি কয়েকটি সরঞ্জামের সংশ্লিষ্টকে ব্যবহার করেছেন যোগাযোগের উদ্দেশ্যে অর্জন করার জন্যতিনি চারটি দল গঠন করেছেন এই সরঞ্জামগুলিকে সাজালোর জন্য।

1 নং দলঃ তাদের দ্বারা ব্যবহৃত সরঞ্জামটি ছিল যোগাযোগের একটি নৈর্ব্যক্তিক রূপ যার জন্য অর্থ প্রদান করা হযেছিল।

2 নং দলঃ তারা যে সরঞ্জামটি ব্যবহার করেছে তা একাধিক সম্ভাব্য গ্রাহকদের সাথে কথাপোকথনের আকারে মৌখিকভাবে ম্যাসেজের উপস্থাপনা দ্বারা বিক্রয় করার উদ্দেশ্যে গঠিত।

3 নং দলঃ এই দলটি স্বল্প মেয়াদী প্রণোদনা ব্যবহার করেছে যা ফ্রেজদের অবিলম্বে ক্রয় করতে উৎসাহিত করার জন্য সাজানো হযেছিল

4 নং দলঃ এই দলটি একটি অ-ব্যক্তিগত ধারা ব্যবহার করছিল যা বিলামুলো।

সমস্ত দলগুলি সাফল্যের সঙ্গে তাদের সরঞ্জামকে সাজিয়েছিল এবং আকাঙ্ক্ষিত লক্ষ্যকে অর্জন করেছিল।

4 নং দল যে সরঞ্জামটি ব্যবহার করেছে তা হল _____

1. প্যাকেজিং
2. বিজ্ঞাপন
3. প্রচার/পাবলিসিটি
4. বিক্রয়ের প্রচার/সেলস্ প্রমোশন

Options :

485584145929. 1
485584145930. 2
485584145931. 3
485584145932. 4

Question Number : 99 Question Id : 48558436484 Question Type : MCQ Option Shuffling : No Is Question Mandatory : No Calculator : None Response Time : N.A Think Time : N.A Minimum Instruction Time : 0

Correct Marks : 5 Wrong Marks : 1

Question Key Details :

| Key | Value |
|---------------|-------|
| Comprehension | Comp2 |

Safex Ltd is a company manufacturing masks. The newly appointed marketing manager of the firm has taken 'Covid Pandemic' as an opportunity to increase sales. He used a combination of tools to achieve its communication objective. He constituted 4 teams for designing these tools.

Team 1 :- The tool used by them was an impersonal form of communication which was paid for.

Team 2:- The tool used by them involves oral presentation of message in the form of conversation with one or more prospective customers for the purpose of making sales

Team 3:- This team used short-term incentives which were designed to encourage the buyers to make immediate purchase.

Team 4:- This team used a non-personal form of communication which was non-paid.

All the teams successfully designed their tools and achieved their desired results.

The tool used by Team 1 is _____

1. Advertising
2. Public relations
3. Publicity
4. Personal selling

Options :

- 485584145933. 1
- 485584145934. 2
- 485584145935. 3
- 485584145936. 4

Question Number : 99 Question Id : 48558436484 Question Type : MCQ Option Shuffling : No Is Question Mandatory : No Calculator : None Response Time : N.A Think Time : N.A Minimum Instruction Time : 0

Correct Marks : 5 Wrong Marks : 1

Question Key Details :

| Key | Value |
|---------------|-------|
| Comprehension | Comp2 |

স্যাক্সেস লিমিটেড হল মাথু যা মুখোশ প্রবৃত্তিকারক একটি কোম্পানী, একজন সদ্য নিযুক্ত মার্কেটিং ম্যানেজার কোভিড অভিনারীকে বিক্রয় বাড়ানোর একটি সুযোগ হিসাবে গ্রহণ করেছেন। তিনি কয়েকটি সরঞ্জামের সংশ্লিষ্টকে ব্যবহার করেছেন যোগাযোগের উদ্দেশ্যে অর্জন করার জন্য। তিনি চারটি দল গঠন করেছেন এই সরঞ্জামগুলিকে সাজানোর জন্য।

1 নং দলঃ তাদের দ্বারা ব্যবহৃত সরঞ্জামটি ছিল যোগাযোগের একটি নৈর্ব্যক্তিক রূপ যার জন্য অর্থ প্রদান করা হতো।

2 নং দলঃ তারা যে সরঞ্জামটি ব্যবহার করেছে তা একাধিক সম্ভাব্য গ্রাহকদের সাথে কথাবার্তা করার আকারে মৌখিকভাবে ম্যাসেজের উপস্থাপনা দ্বারা বিক্রয় করার উদ্দেশ্যে গঠিত।

3 নং দলঃ এই দলটি স্বল্প মেয়াদী প্রচারণা ব্যবহার করেছে যা ফ্রেজদের অবিলম্বে ক্রয় করতে উৎসাহিত করার জন্য সাজানো হয়েছিল।

4 নং দলঃ এই দলটি একটি অ-ব্যক্তিগত ধারা ব্যবহার করছিল যা বিনামূল্যে।

সমস্ত দলগুলি সাফল্যের সঙ্গে তাদের সরঞ্জামকে সাজিয়েছিল এবং আকাঙ্ক্ষিত লক্ষ্যকে অর্জন করেছিল।

1 নং দলটি যে সরঞ্জামটি ব্যবহার করেছে তা হল _____

1. বিজ্ঞাপন
2. জনসংযোগ বা পাবলিক রিলেশন
3. প্রচার/পাবলিসিটি
4. ব্যক্তিগত বিক্রয় বা পারসোনাল সেলিং

Options :

485584145933. 1
485584145934. 2
485584145935. 3
485584145936. 4

Question Number : 100 Question Id : 48558436485 Question Type : MCQ Option Shuffling : No Is Question Mandatory : No Calculator : None Response Time : N.A Think Time : N.A Minimum Instruction Time : 0

Correct Marks : 5 Wrong Marks : 1

Question Key Details :

| Key | Value |
|---------------|-------|
| Comprehension | Comp2 |

Safex Ltd is a company manufacturing masks. The newly appointed marketing manager of the firm has taken 'Covid Pandemic' as an opportunity to increase sales. He used a combination of tools to achieve its communication objective. He constituted 4 teams for designing these tools.

Team 1 :- The tool used by them was an impersonal form of communication which was paid for.

Team 2:- The tool used by them involves oral presentation of message in the form of conversation with one or more prospective customers for the purpose of making sales

Team 3:- This team used short-term incentives which were designed to encourage the buyers to make immediate purchase.

Team 4:- This team used a non-personal form of communication which was non-paid.

All the teams successfully designed their tools and achieved their desired results.

The tool used by Team 2 is _____

1. Public relations
2. Personal selling
3. Advertising
4. Publicity

Options :

- 485584145937. 1
- 485584145938. 2
- 485584145939. 3
- 485584145940. 4

Question Number : 100 Question Id : 48558436485 Question Type : MCQ Option Shuffling : No Is Question Mandatory : No Calculator : None Response Time : N.A Think Time : N.A Minimum Instruction Time : 0

Correct Marks : 5 Wrong Marks : 1

Question Key Details :

| Key | Value |
|---------------|-------|
| Comprehension | Comp2 |

স্যাক্সেস লিমিটেড হল মাথু বা মুখোশ প্রবৃত্তিকারক একটি কোম্পানী, একজন সদ্য নিযুক্ত মার্কেটিং ম্যানেজার কোভিড অভিনারীকে বিক্রয় বাজারের একটি সুযোগ হিসাবে গ্রহণ করেছেন। তিনি কয়েকটি সরঞ্জামের সংশ্লিষ্টকে ব্যবহার করেছেন যোগাযোগের উদ্দেশ্যে অর্জন করার জন্য। তিনি চারটি দল গঠন করেছেন এই সরঞ্জামগুলিকে সাজানোর জন্য।

1 নং দলঃ তাদের দ্বারা ব্যবহৃত সরঞ্জামটি ছিল যোগাযোগের একটি নৈর্ব্যক্তিক রূপ যার জন্য অর্থ প্রদান করা হতো।

2 নং দলঃ তারা যে সরঞ্জামটি ব্যবহার করেছে তা একাধিক সম্ভাব্য গ্রাহকদের সাথে কথাবার্তা করার আকারে যৌথভাবে ম্যাসেজের উপস্থাপনা দ্বারা বিক্রয় করার উদ্দেশ্যে গঠিত।

3 নং দলঃ এই দলটি স্বল্প মেয়াদী প্রচারণা ব্যবহার করেছে যা ফ্রেজদের অবিদ্যে ক্রয় করতে উৎসাহিত করার জন্য সাজানো হয়েছিল।

4 নং দলঃ এই দলটি একটি অ-ব্যক্তিগত ধারা ব্যবহার করছিল বা বিনামূল্যে।

সমস্ত দলগুলি সাফল্যের সঙ্গে তাদের সরঞ্জামকে সাজিয়েছিল এবং আকাঙ্ক্ষিত লক্ষ্যকে অর্জন করেছিল।

2 নং দলটি যে সরঞ্জাম ব্যবহার করেছে তা হল _____

1. জন সংযোগ বা পাবলিক রিলেশন
2. ব্যক্তিগত বিক্রয় বা পারসোনাল সেলিং
3. বিজ্ঞাপন বা অ্যাডভার্টাইজিং
4. প্রচার বা পাবলিসিটি

Options :

485584145937. 1
485584145938. 2
485584145939. 3
485584145940. 4

History

| | |
|-------------------------------|-----------|
| Group Number : | 4 |
| Group Id : | 485584824 |
| Group Maximum Duration : | 45 |
| Group Minimum Duration : | 45 |
| Show Attended Group? : | No |
| Edit Attended Group? : | No |
| Break time : | 0 |
| Group Marks : | 200 |
| Is this Group for Examiner? : | No |
| Examiner permission : | Cant View |
| Show Progress Bar? : | No |

History

| | |
|------------------|-----------|
| Section Id : | 485584948 |
| Section Number : | 1 |

| | |
|--|------------|
| Section type : | Online |
| Mandatory or Optional : | Mandatory |
| Number of Questions : | 50 |
| Number of Questions to be attempted : | 40 |
| Section Marks : | 200 |
| Enable Mark as Answered Mark for Review and Clear Response : | Yes |
| Maximum Instruction Time : | 0 |
| Sub-Section Number : | 1 |
| Sub-Section Id : | 4855842696 |
| Question Shuffling Allowed : | Yes |
| Is Section Default? : | null |

Question Number : 101 Question Id : 48558436486 Question Type : MCQ Option Shuffling : No Is Question Mandatory : No Calculator : None Response Time : N.A Think Time : N.A Minimum Instruction Time : 0

Correct Marks : 5 Wrong Marks : 1

Question Key Details :

| Key | Value |
|---------------|-------|
| Comprehension | MCQ |

Who made the following statement: "Marshall left India three thousand years older than he had found her."

1. Daya Ram Sahni
2. Rakhal Das Banerji
3. R.E. M. Wheeler
4. S.N. Roy

Options :

485584145941. 1
485584145942. 2
485584145943. 3
485584145944. 4

Question Number : 101 Question Id : 48558436486 Question Type : MCQ Option Shuffling : No Is Question Mandatory : No Calculator : None Response Time : N.A Think Time : N.A Minimum Instruction Time : 0

Correct Marks : 5 Wrong Marks : 1

Question Key Details :

| Key | Value |
|---------------|-------|
| Comprehension | MCQ |

কে এই বিবৃতি প্রদান করেছিলেন: " তাঁকে (ভারত) আবিষ্কার করার তিনহাজার বছর আগে ভারত ত্যাগ করেছিলেন মার্শাল ."

1. দয়ারাম সাহনী
2. রাখাল দাস ব্যাণার্জী
3. আর.ই.এম হইলার
4. এস.এন.রায়

Options :

- 485584145941. 1
- 485584145942. 2
- 485584145943. 3
- 485584145944. 4

Question Number : 102 Question Id : 48558436487 Question Type : MCQ Option Shuffling : No Is Question Mandatory : No Calculator : None Response Time : N.A Think Time : N.A Minimum Instruction Time : 0

Correct Marks : 5 Wrong Marks : 1

Question Key Details :

| Key | Value |
|---------------|-------|
| Comprehension | MCQ |

Archaeological study of a mound can provide cultural sequence for a site. Study of such layers is called _____.

1. Ethnography
2. Stratigraphy
3. Epigraphy
4. Sociography

Options :

- 485584145945. 1
- 485584145946. 2
- 485584145947. 3
- 485584145948. 4

Question Number : 102 Question Id : 48558436487 Question Type : MCQ Option Shuffling : No Is Question Mandatory : No Calculator : None Response Time : N.A Think Time : N.A Minimum Instruction Time : 0

Correct Marks : 5 Wrong Marks : 1

Question Key Details :

| Key | Value |
|---------------|-------|
| Comprehension | MCQ |

ভূপের প্রত্নতাত্ত্বিক গবেষণা কোনো প্রত্নক্ষেত্রের সাংস্কৃতিক কালানুক্রম উপস্থাপিত করে। এই ধরনের গবেষণাকে বলা হয়:

1. জাতিতত্ত্ব
2. ভূপ্রস্তরতত্ত্ব বা প্রস্তরবিদ্যা
3. শিলালিপিবিদ্যা
4. সমাজস্তর বিন্যাসতত্ত্ব

Options :

- 485584145945. 1
- 485584145946. 2
- 485584145947. 3

485584145948. 4

Question Number : 103 Question Id : 48558436488 Question Type : MCQ Option Shuffling : No Is Question Mandatory : No Calculator : None Response Time : N.A Think Time : N.A Minimum Instruction Time : 0

Correct Marks : 5 Wrong Marks : 1

Question Key Details :

| Key | Value |
|---------------|-------|
| Comprehension | MCQ |

Which of the following Harappan sites were located near the coast?

1. Banawali and Rakhigarhi
2. Nageshwar and Balakot
3. Ganweriwala and Mitathal
4. Kot-Diji and Kalibangan

Options :

485584145949. 1
485584145950. 2
485584145951. 3
485584145952. 4

Question Number : 103 Question Id : 48558436488 Question Type : MCQ Option Shuffling : No Is Question Mandatory : No Calculator : None Response Time : N.A Think Time : N.A Minimum Instruction Time : 0

Correct Marks : 5 Wrong Marks : 1

Question Key Details :

| Key | Value |
|---------------|-------|
| Comprehension | MCQ |

নিম্নলিখিত হরপ্পার ক্ষেত্রগুলির মধ্যে কোনটি উপকূলবর্তী অঞ্চলে অবস্থিত?

1. বানাওয়ালি ও রাখিগারহি
2. নাগেশ্বর ও বালাকোট
3. গম্বেরিওয়ালি ও মিতাথাল
4. কোট-দিজি ও কালিবঙ্গান

Options :

485584145949. 1
485584145950. 2
485584145951. 3
485584145952. 4

Question Number : 104 Question Id : 48558436489 Question Type : MCQ Option Shuffling : No Is Question Mandatory : No Calculator : None Response Time : N.A Think Time : N.A Minimum Instruction Time : 0

Correct Marks : 5 Wrong Marks : 1

Question Key Details :

| Key | Value |
|---------------|-------|
| Comprehension | MCQ |

Who among the following is often held as the 'Father of Indian Archaeology'?

1. John Marshall
2. Alexander Cunningham
3. James Prinsep
4. R.E.M. Wheeler

Options :

485584145953. 1
485584145954. 2
485584145955. 3
485584145956. 4

Question Number : 104 Question Id : 48558436489 Question Type : MCQ Option Shuffling : No Is Question Mandatory : No Calculator : None Response Time : N.A Think Time : N.A Minimum Instruction Time : 0

Correct Marks : 5 Wrong Marks : 1

Question Key Details :

| Key | Value |
|---------------|-------|
| Comprehension | MCQ |

নিম্নলিখিত ব্যক্তিবর্গের মধ্যে কাকে ভারতীয় প্রত্নবিদ্যার জনক বলে গণ্য করা হয় ?

1. জন মার্শাল
2. আলেকজান্ডার কুনিংহাম
3. জেমস প্রিন্সেপ
4. আর.ই.এম.ইউলার

Options :

485584145953. 1
485584145954. 2
485584145955. 3
485584145956. 4

Question Number : 105 Question Id : 48558436490 Question Type : MCQ Option Shuffling : No Is Question Mandatory : No Calculator : None Response Time : N.A Think Time : N.A Minimum Instruction Time : 0

Correct Marks : 5 Wrong Marks : 1

Question Key Details :

| Key | Value |
|---------------|-------|
| Comprehension | MCQ |

Traces of canals have been found at the Harappan site of Shortughai, which is located in _____

1. Punjab
2. Sind
3. Afghanistan
4. Gujarat

Options :

485584145957. 1
485584145958. 2
485584145959. 3
485584145960. 4

Question Number : 105 Question Id : 48558436490 Question Type : MCQ Option Shuffling : No Is Question Mandatory : No Calculator : None Response Time : N.A Think Time : N.A Minimum Instruction Time : 0

Correct Marks : 5 Wrong Marks : 1

Question Key Details :

| Key | Value |
|---------------|-------|
| Comprehension | MCQ |

জলাধারের বহু চিহ্ন হরপ্পার শোরতুঘাইতে খুঁজে পাওয়া গেছে, এটি অবস্থিত :

1. পাঞ্জাব
2. সিন্ধু
3. আফগানিস্তান
4. গুজরাট

Options :

485584145957. 1
485584145958. 2
485584145959. 3
485584145960. 4

Question Number : 106 Question Id : 48558436491 Question Type : MCQ Option Shuffling : No Is Question Mandatory : No Calculator : None Response Time : N.A Think Time : N.A Minimum Instruction Time : 0

Correct Marks : 5 Wrong Marks : 1

Question Key Details :

| Key | Value |
|---------------|-------|
| Comprehension | MCQ |

In ancient India, the first coins to bear the names and images of the rulers were issued by the _____.

1. Indo-Greeks
2. Kushans
3. Parthians
4. Shakas

Options :

485584145961. 1
485584145962. 2
485584145963. 3
485584145964. 4

Question Number : 106 Question Id : 48558436491 Question Type : MCQ Option Shuffling : No Is Question Mandatory : No Calculator : None Response Time : N.A Think Time : N.A Minimum Instruction Time : 0

Correct Marks : 5 Wrong Marks : 1

Question Key Details :

| Key | Value |
|---------------|-------|
| Comprehension | MCQ |

প্রাচীন ভারতে প্রথম শাসকের নাম ও চিত্র সম্বলিত মুদ্রা প্রবর্তিত করেন-

1. ইন্দো-গ্রীকগণ
2. কুষাণগণ
3. পার্থিয়ানগণ
4. শকগণ

Options :

485584145961. 1
485584145962. 2
485584145963. 3
485584145964. 4

Question Number : 107 Question Id : 48558436492 Question Type : MCQ Option Shuffling : No Is Question Mandatory : No Calculator : None Response Time : N.A Think Time : N.A Minimum Instruction Time : 0

Correct Marks : 5 Wrong Marks : 1

Question Key Details :

| Key | Value |
|---------------|-------|
| Comprehension | MCQ |

Which place are you visiting if you come across the lion capital built by Asoka?

1. Varanasi
2. Delhi
3. Sarnath
4. Ujjayini

Options :

485584145965. 1
485584145966. 2
485584145967. 3
485584145968. 4

Question Number : 107 Question Id : 48558436492 Question Type : MCQ Option Shuffling : No Is Question Mandatory : No Calculator : None Response Time : N.A Think Time : N.A Minimum Instruction Time : 0

Correct Marks : 5 Wrong Marks : 1

Question Key Details :

| Key | Value |
|---------------|-------|
| Comprehension | MCQ |

অশোক নির্মিত সিংহ রাজধানীর সম্পর্কে জানতে গেলে তুমি কোন জায়গা ভ্রমণ করবে ?

1. বারানসী
2. দিল্লী
3. সারনাথ
4. উজ্জয়িনী

Options :

485584145965. 1
485584145966. 2
485584145967. 3
485584145968. 4

Question Number : 108 Question Id : 48558436493 Question Type : MCQ Option Shuffling : No Is Question Mandatory : No Calculator : None Response Time : N.A Think Time : N.A Minimum Instruction Time : 0

Correct Marks : 5 Wrong Marks : 1

Question Key Details :

| Key | Value |
|---------------|-------|
| Comprehension | MCQ |

Prabhavati Gupta was the daughter of _____.

1. Chandragupta II
2. Samudragupta
3. Chandragupta Maurya
4. Skandgupta

Options :

485584145969. 1
485584145970. 2
485584145971. 3
485584145972. 4

Question Number : 108 Question Id : 48558436493 Question Type : MCQ Option Shuffling : No Is Question Mandatory : No Calculator : None Response Time : N.A Think Time : N.A Minimum Instruction Time : 0

Correct Marks : 5 Wrong Marks : 1

Question Key Details :

| Key | Value |
|---------------|-------|
| Comprehension | MCQ |

প্রভাবতী গুপ্ত কার কন্যা ছিলেন :

1. দ্বিতীয় চন্দ্রগুপ্ত
2. সমুদ্রগুপ্ত
3. চন্দ্রগুপ্ত মৌর্য
4. স্কন্দগুপ্ত

Options :

485584145969. 1
485584145970. 2
485584145971. 3
485584145972. 4

Question Number : 109 Question Id : 48558436494 Question Type : MCQ Option Shuffling : No Is Question Mandatory : No Calculator : None Response Time : N.A Think Time : N.A Minimum Instruction Time : 0

Correct Marks : 5 Wrong Marks : 1

Question Key Details :

| Key | Value |
|---------------|-------|
| Comprehension | MCQ |

Which of the following statements are **correct**?

- A. The Dharmasutras and Dharmashastras recognised as many as twelve forms of marriages.
- B. People were classified into gotras and each gotra was named after a Vedic seer.
- C. Jatis, which shared a common occupation, were sometimes organised into shrenis or guilds.
- D. Women were allowed to retain the gifts they received on their marriage as 'Stridhana' to be inherited by their children.
- E. Matriliney is the term used when descent is traced through the mother.

Choose the **correct** answer from the options given below:

- 1. A, B, C, E only
- 2. A, C, D, E only
- 3. B, C, D, E only
- 4. A, B, D, E only

Options :

- 485584145973. 1
- 485584145974. 2
- 485584145975. 3
- 485584145976. 4

Question Number : 109 Question Id : 48558436494 Question Type : MCQ Option Shuffling : No Is Question Mandatory : No Calculator : None Response Time : N.A Think Time : N.A Minimum Instruction Time : 0

Correct Marks : 5 Wrong Marks : 1

Question Key Details :

| Key | Value |
|---------------|-------|
| Comprehension | MCQ |

নিচের উক্তিগুলির মধ্যে কোনটি সঠিক:

- A. ধর্মসূত্র ও ধর্মশাস্ত্রসমূহ সর্বাধিক বারো (১২) ধরনের বিবাহকে স্বীকৃতি দেয়
- B. জনগণকে গোত্রে শ্রেণিবিভক্ত করা হত ও প্রত্যেক গোত্রে বৈদিক ঋষিদের নামে নামকরণ করা হত
- C. জাতিসমূহ, যারা একই পেশাভুক্ত কখনও কখনও শ্রেণি বা গিল্ড তৈরি করতো
- D. নারী বা বিবাহসূত্রে পাওয়া উপহার 'স্ত্রীধন' হিসেবে রেখে দিতে পারতো, যা তাদের সম্ভ্রানরা উত্তরাধিকারসূত্রে লাভ করত
- E. মাতৃতান্ত্রিক এমন একটি শব্দ যখন মায়ের নামে কুলের পরিচয় হয়

নিচে দেওয়া বিকল্পগুলির মধ্যে থেকে সঠিকটি নির্বাচন কর:

- 1. কেবলমাত্র A, B, C, E
- 2. কেবলমাত্র A, C, D, E
- 3. কেবলমাত্র B, C, D, E
- 4. কেবলমাত্র A, B, D, E

Options :

485584145973. 1
485584145974. 2
485584145975. 3
485584145976. 4

Question Number : 110 Question Id : 48558436495 Question Type : MCQ Option Shuffling : No Is Question Mandatory : No Calculator : None Response Time : N.A Think Time : N.A Minimum Instruction Time : 0

Correct Marks : 5 Wrong Marks : 1

Question Key Details :

| Key | Value |
|---------------|-------|
| Comprehension | MCQ |

What did Ibn Battuta observe when he visited the city of Delhi?

- A. Its beautiful temple architecture in every part of the city.
- B. Its fine cemetery with domes and arches.
- C. Its imposing stupas in the heart of the city.
- D. Its twenty-eight big darwazas.
- E. Its many waterfalls within the city.

Choose the correct answer from the options given below:

- 1. A, B only
- 2. C, D only
- 3. B, D only
- 4. D, E only

Options :

485584145977. 1
485584145978. 2
485584145979. 3
485584145980. 4

Question Number : 110 Question Id : 48558436495 Question Type : MCQ Option Shuffling : No Is Question Mandatory : No Calculator : None Response Time : N.A Think Time : N.A Minimum Instruction Time : 0

Correct Marks : 5 Wrong Marks : 1

Question Key Details :

| Key | Value |
|---------------|-------|
| Comprehension | MCQ |

দিল্লী নগরী পরিদর্শনের সময় ইবন বতুতা কি প্রত্যক্ষ করেছিলেন ?

- A. নগরীর সর্বত্র সুন্দর মন্দির স্থাপত্য
- B. গম্বুজ ও খিলান সমন্বিত সুন্দর সমাধি ক্ষেত্র
- C. নগরীর কেন্দ্রস্থলে স্তূপ দৃশ্যমান
- D. আঠাশটি বৃহৎ দরওয়াজা
- E. নগরীর মধ্যে বহুসংখ্যক জলপ্রপাত

নিচের বিকল্পগুলির মধ্যে থেকে সঠিক উত্তর নির্বাচন কর:

- 1. একমাত্র A ও B
- 2. একমাত্র C ও D
- 3. একমাত্র B ও D
- 4. একমাত্র D ও E

Options :

- 485584145977. 1
- 485584145978. 2
- 485584145979. 3
- 485584145980. 4

Question Number : 111 Question Id : 48558436496 Question Type : MCQ Option Shuffling : No Is Question Mandatory : No Calculator : None Response Time : N.A Think Time : N.A Minimum Instruction Time : 0

Correct Marks : 5 Wrong Marks : 1

Question Key Details :

| Key | Value |
|---------------|-------|
| Comprehension | MCQ |

Match List I with List II:

| LIST I (Traders) | | LIST II (Countries) | |
|---------------------|------------------|------------------------|----------|
| A. | Nicolo de Conti | I. | England |
| B. | Duarte Barbosa | II. | Italy |
| C. | Peter Mundy | III. | Russia |
| D. | Afanasii Nikitin | IV. | Portugal |

Choose the correct answer from the options given below:

- 1. A-II, B-I, C-III, D-IV
- 2. A-II, B-III, C-IV, D-I
- 3. A-IV, B-III, C-II, D-I
- 4. A-II, B-IV, C-I, D-III

Options :

- 485584145981. 1
- 485584145982. 2

485584145983. 3
485584145984. 4

Question Number : 111 Question Id : 48558436496 Question Type : MCQ Option Shuffling : No Is Question Mandatory :
No Calculator : None Response Time : N.A Think Time : N.A Minimum Instruction Time : 0

Correct Marks : 5 Wrong Marks : 1

Question Key Details :

| Key | Value |
|---------------|-------|
| Comprehension | MCQ |

তালিকা ১ তালিকা ২ এর সাথে মেলাও:-

| তালিকা ১ বনিক | | তালিকা ২ দেশসমূহ | |
|------------------|-------------------|---------------------|-----------|
| A. | নিকোলো ডি কন্টি | ১I. | ইংল্যান্ড |
| B. | দুয়ার্তে বারবোসা | ২II. | ইতালি |
| C. | পিটার মাস্তি | ৩III. | রাশিয়া |
| D. | আকানাসি নিকিভিন | ৪IV. | পর্তুগাল |

নিম্নে প্রদত্ত বিকল্পগুলির মধ্যে থেকে সঠিক উত্তরটি নির্ণয় কর:

1. A-II, B-I, C-III, D-IV
2. A-II, B-III, C-IV, D-I
3. A-IV, B-III, C-II, D-I
4. A-II, B-IV, C-I, D-III

Options :

485584145981. 1
485584145982. 2
485584145983. 3
485584145984. 4

Question Number : 112 Question Id : 48558436497 Question Type : MCQ Option Shuffling : No Is Question Mandatory :
No Calculator : None Response Time : N.A Think Time : N.A Minimum Instruction Time : 0

Correct Marks : 5 Wrong Marks : 1

Question Key Details :

| Key | Value |
|---------------|-------|
| Comprehension | MCQ |

Match List I with List II:

| LIST I | | LIST II | |
|--------|------------|---------|--------------------------|
| A. | Alvars | I. | Bijak |
| B. | Virashaiva | II. | Tevaram |
| C. | Nayanars | III. | Nalayira Divyaprabandham |
| D. | Kabir | IV. | Vachanas |

Choose the correct answer from the options given below:

1. A-I, B-IV, C-III, D-II
2. A-III, B-IV, C-II, D-I
3. A-II, B-I, C-III, D-IV
4. A-IV, B-III, C-I, D-II

Options :

485584145985. 1
485584145986. 2
485584145987. 3
485584145988. 4

Question Number : 112 Question Id : 48558436497 Question Type : MCQ Option Shuffling : No Is Question Mandatory : No Calculator : None Response Time : N.A Think Time : N.A Minimum Instruction Time : 0

Correct Marks : 5 Wrong Marks : 1

Question Key Details :

| Key | Value |
|---------------|-------|
| Comprehension | MCQ |

তালিকা ১ এর সহিত তালিকা ২ মেনাও:-

| তালিকা I | | তালিকা II | |
|----------|---------|-----------|------------------------|
| A. | আলবার | I. | বিজাক |
| B. | বীরশিব | II. | তেভরম |
| C. | নায়নার | III. | নালয়িরা দিব্যপ্রবন্ধম |
| D. | কবীর | IV. | বচন |

নিচে প্রদত্ত বিকল্পগুলির মধ্যে থেকে সঠিক উত্তর নির্বাচন কর:

1. A-I, B-IV, C-III, D-II
2. A-III, B-IV, C-II, D-I
3. A-II, B-I, C-III, D-IV
4. A-IV, B-III, C-I, D-II

Options :

485584145985. 1
485584145986. 2
485584145987. 3

Question Number : 113 Question Id : 48558436498 Question Type : MCQ Option Shuffling : No Is Question Mandatory : No Calculator : None Response Time : N.A Think Time : N.A Minimum Instruction Time : 0

Correct Marks : 5 Wrong Marks : 1

Question Key Details :

| Key | Value |
|---------------|-------|
| Comprehension | MCQ |

Match List I with List II:

| LIST I (Sufi Teachers) | | LIST II (Year of Death) | |
|---------------------------|--------------------------|----------------------------|------|
| A. | Muinuddin Sijzi | I. | 1265 |
| B. | Fariduddin Ganj-i-Shakar | II. | 1235 |
| C. | Nizamuddin Auliya | III. | 1356 |
| D. | Nasiruddin Chirag | IV. | 1325 |

Choose the correct answer from the options given below:

1. A-II, B-III, C-I, D-IV
2. A-I, B-II, C-III, D-IV
3. A-II, B-I, C-IV, D-III
4. A-IV, B-III, C-I, D-II

Options :

485584145989. 1
485584145990. 2
485584145991. 3
485584145992. 4

Question Number : 113 Question Id : 48558436498 Question Type : MCQ Option Shuffling : No Is Question Mandatory : No Calculator : None Response Time : N.A Think Time : N.A Minimum Instruction Time : 0

Correct Marks : 5 Wrong Marks : 1

Question Key Details :

| Key | Value |
|---------------|-------|
| Comprehension | MCQ |

১ নং তালিকার সহিত ২ নং তালিকা মেলাও:-

| তালিকা ১ (সুফি শিক্ষক) | | তালিকা ২ (মৃত্যুর বছর) | |
|---------------------------|-------------------------|---------------------------|------|
| A. | মুহিনুদ্দিন সিজাজি | I. | 1265 |
| B. | ফারিদুদ্দিন গঞ্জ-ই-শাকর | II. | 1235 |
| C. | নিজামুদ্দিন আউলিয়া | III. | 1356 |
| D. | নাসিরুদ্দিন চিরাগ | IV. | 1325 |

নিচে প্রদত্ত বিকল্পগুলির থেকে সঠিক উত্তর নির্বাচন কর:

1. A-II, B-III, C-I, D-IV

2. A-I, B-II, C-III, D-IV

3. A-II, B-I, C-IV, D-III

4. A-IV, B-III, C-I, D-II

Options :

485584145989. 1

485584145990. 2

485584145991. 3

485584145992. 4

Question Number : 114 Question Id : 48558436499 Question Type : MCQ Option Shuffling : No Is Question Mandatory : No Calculator : None Response Time : N.A Think Time : N.A Minimum Instruction Time : 0

Correct Marks : 5 Wrong Marks : 1

Question Key Details :

| Key | Value |
|---------------|-------|
| Comprehension | MCQ |

Choose the **incorrect** statement out of the following:

1. Guru Nanak rejected the sacrifices and rituals of both Hindus and Muslims.

2. Guru Nanak did not wish to establish his own new religion.

3. Guru Nanak advocated the form of Nirgunna Bhakti.

4. Guru Nanak appointed one his disciple 'Angad' to succeed him as the perceptor.

Options :

485584145993. 1

485584145994. 2

485584145995. 3

485584145996. 4

Question Number : 114 Question Id : 48558436499 Question Type : MCQ Option Shuffling : No Is Question Mandatory : No Calculator : None Response Time : N.A Think Time : N.A Minimum Instruction Time : 0

Correct Marks : 5 Wrong Marks : 1

Question Key Details :

| Key | Value |
|---------------|-------|
| Comprehension | MCQ |

নিচের তথ্যগুলির মধ্যে থেকে ভুলটি বের কর :

1. গুরুনানক হিন্দু ও মুসলমানদের ধর্মীয় আচার-অনুষ্ঠান ও উৎসবাদি পরিহার করেন
2. গুরু নানক নিজে কোনও নতুন ধর্ম প্রচলন করতে চাননি
3. গুরু নানক নির্গুন ভক্তির প্রচার করেছিলেন
4. গুরু নানক তাঁর এক শিষ্য 'অহমদ' কে পরবর্তী তত্ত্বাবধায়ক হিসেবে নিযুক্ত করেন

Options :

485584145993. 1
485584145994. 2
485584145995. 3
485584145996. 4

Question Number : 115 Question Id : 48558436500 Question Type : MCQ Option Shuffling : No Is Question Mandatory : No Calculator : None Response Time : N.A Think Time : N.A Minimum Instruction Time : 0

Correct Marks : 5 Wrong Marks : 1

Question Key Details :

| Key | Value |
|---------------|-------|
| Comprehension | MCQ |

Chronologically arrange the landmark events in the discovery of Vijayanagara.

- A. Conservation under John Marshall.
- B. Documentation of temple inscriptions by J.F. Fleet.
- C. Survey of Vijayanagara by Colin Mackenzie.
- D. Status of world heritage site by UNESCO.
- E. Photography of the archaeological site under Alexander Greenlaw.

Choose the correct answer from the options given below:

1. C, E, B, A, D
2. B, D, A, E, C
3. C, D, A, B, E
4. E, A, C, D, B

Options :

485584145997. 1
485584145998. 2
485584145999. 3
485584146000. 4

Question Number : 115 Question Id : 48558436500 Question Type : MCQ Option Shuffling : No Is Question Mandatory : No Calculator : None Response Time : N.A Think Time : N.A Minimum Instruction Time : 0

Correct Marks : 5 Wrong Marks : 1

Question Key Details :

| Key | Value |
|---------------|-------|
| Comprehension | MCQ |

বিজয়নগরের আবিষ্কারের গুরুত্বপূর্ণ ঘটনাসমূহকে কালানুক্রমিক ভাবে সাজাও:

- জন মার্শালের অধীনে সংরক্ষণ
- জে.এফ. ফ্লিট কর্তৃক মন্দিরগারে খোদাইকৃত লিপির নথিভুক্তিকরণ
- কলিন ম্যাকেঞ্জি কর্তৃক বিজয়নগরের সমীক্ষা
- ইউনেস্কো কর্তৃক বিশ্ব ঐতিহ্য মর্যাদা প্রদান
- আলেকজান্ডার গ্রীনলার অধীনে প্রত্নক্ষেত্রের ছবি তোলা

নিচে প্রদত্ত বিকল্পগুলি থেকে সঠিক উত্তর নির্বাচন কর:

- C, E, B, A, D
- B, D, A, E, C
- C, D, A, B, E
- E, A, C, D, B

Options :

485584145997. 1
485584145998. 2
485584145999. 3
485584146000. 4

Question Number : 116 Question Id : 48558436501 Question Type : MCQ Option Shuffling : No Is Question Mandatory : No Calculator : None Response Time : N.A Think Time : N.A Minimum Instruction Time : 0

Correct Marks : 5 Wrong Marks : 1

Question Key Details :

| Key | Value |
|---------------|-------|
| Comprehension | MCQ |

Arrange the following dynasties in a chronological order.

- Tuluva dynasty
- Saluva dynasty
- Aravidu dynasty
- Sangama dynasty

Choose the **correct** answer from the options given below:

- A, B, C, D
- A, B, D, C
- C, D, A, B
- D, B, A, C

Options :

485584146001. 1

485584146002. 2
485584146003. 3
485584146004. 4

Question Number : 116 Question Id : 48558436501 Question Type : MCQ Option Shuffling : No Is Question Mandatory : No Calculator : None Response Time : N.A Think Time : N.A Minimum Instruction Time : 0

Correct Marks : 5 Wrong Marks : 1

Question Key Details :

| Key | Value |
|---------------|-------|
| Comprehension | MCQ |

রাজবংশগুলি কালানুক্রমিক ভাবে সাজাও :

- A. তুলুভ রাজবংশ
- B. সলুভ রাজবংশ
- C. অরভিদু রাজবংশ
- D. সঙ্গম রাজবংশ

নিচের বিকল্পগুলির মধ্যে থেকে সঠিক উত্তর নির্বাচন কর:

- 1. A, B, C, D
- 2. A, B, D, C
- 3. C, D, A, B
- 4. D, B, A, C

Options :

485584146001. 1
485584146002. 2
485584146003. 3
485584146004. 4

Question Number : 117 Question Id : 48558436502 Question Type : MCQ Option Shuffling : No Is Question Mandatory : No Calculator : None Response Time : N.A Think Time : N.A Minimum Instruction Time : 0

Correct Marks : 5 Wrong Marks : 1

Question Key Details :

| Key | Value |
|---------------|-------|
| Comprehension | MCQ |

What is a 'Gopuram' in the context of Vijayanagara Empire?

- 1. Mandapa
- 2. Platform
- 3. Shrine
- 4. Gateway

Options :

485584146005. 1

485584146006. 2
485584146007. 3
485584146008. 4

Question Number : 117 Question Id : 48558436502 Question Type : MCQ Option Shuffling : No Is Question Mandatory : No Calculator : None Response Time : N.A Think Time : N.A Minimum Instruction Time : 0

Correct Marks : 5 Wrong Marks : 1

Question Key Details :

| Key | Value |
|---------------|-------|
| Comprehension | MCQ |

বিজয়নগর সাম্রাজ্য প্রসঙ্গে 'গোপুরম' কি ?

1. মন্দির
2. প্লাটফর্ম
3. পবিত্রস্থান
4. সিংহদ্বার

Options :

485584146005. 1
485584146006. 2
485584146007. 3
485584146008. 4

Question Number : 118 Question Id : 48558436503 Question Type : MCQ Option Shuffling : No Is Question Mandatory : No Calculator : None Response Time : N.A Think Time : N.A Minimum Instruction Time : 0

Correct Marks : 5 Wrong Marks : 1

Question Key Details :

| Key | Value |
|---------------|-------|
| Comprehension | MCQ |

Vijayanagara kings claimed to rule on behalf of the God _____.

1. Pampadevi
2. Virupaksha
3. Vitthala
4. Rama

Options :

485584146009. 1
485584146010. 2
485584146011. 3
485584146012. 4

Question Number : 118 Question Id : 48558436503 Question Type : MCQ Option Shuffling : No Is Question Mandatory : No Calculator : None Response Time : N.A Think Time : N.A Minimum Instruction Time : 0

Correct Marks : 5 Wrong Marks : 1

Question Key Details :

| Key | Value |
|---------------|-------|
| Comprehension | MCQ |

বিজয়নগরের রাজারা ঘোষণা করত যে, তারা _____ ঈশ্বরের নামে রাজ্যশাসন করে।

1. পামাদেবী
2. বিরূপক্ষ
3. ভিখালা
4. রাম

Options :

485584146009. 1
485584146010. 2
485584146011. 3
485584146012. 4

Question Number : 119 Question Id : 48558436504 Question Type : MCQ Option Shuffling : No Is Question Mandatory : No Calculator : None Response Time : N.A Think Time : N.A Minimum Instruction Time : 0

Correct Marks : 5 Wrong Marks : 1

Question Key Details :

| Key | Value |
|---------------|-------|
| Comprehension | MCQ |

The Vijayanagara Empire was known to its contemporaries as _____.

1. Maharashtra Samrajyamu
2. Andhra Samrajyamu
3. Tamil Samrajyamu
4. Karnataka Samrajyamu

Options :

485584146013. 1
485584146014. 2
485584146015. 3
485584146016. 4

Question Number : 119 Question Id : 48558436504 Question Type : MCQ Option Shuffling : No Is Question Mandatory : No Calculator : None Response Time : N.A Think Time : N.A Minimum Instruction Time : 0

Correct Marks : 5 Wrong Marks : 1

Question Key Details :

| Key | Value |
|---------------|-------|
| Comprehension | MCQ |

বিজয়নগরের সাম্রাজ্য সমসাময়িক কালে পরিচিত ছিলঃ

1. মহারাষ্ট্র সাম্রাজ্যমূ
2. অন্ধ্র সাম্রাজ্যমূ
3. তামিল সাম্রাজ্যমূ
4. কর্ণাটক সাম্রাজ্যমূ

Options :

485584146013. 1
485584146014. 2
485584146015. 3
485584146016. 4

Question Number : 120 Question Id : 48558436505 Question Type : MCQ Option Shuffling : No Is Question Mandatory : No Calculator : None Response Time : N.A Think Time : N.A Minimum Instruction Time : 0

Correct Marks : 5 Wrong Marks : 1

Question Key Details :

| Key | Value |
|---------------|-------|
| Comprehension | MCQ |

In the 17th century, Indo-Persian sources, the term for non-resident cultivators, who belonged to some other village but cultivated land elsewhere on contractual basis, were known as _____.

1. Khud-Kashta
2. Pahi-Kashta
3. Muqaddam
4. Muzarian

Options :

485584146017. 1
485584146018. 2
485584146019. 3
485584146020. 4

Question Number : 120 Question Id : 48558436505 Question Type : MCQ Option Shuffling : No Is Question Mandatory : No Calculator : None Response Time : N.A Think Time : N.A Minimum Instruction Time : 0

Correct Marks : 5 Wrong Marks : 1

Question Key Details :

| Key | Value |
|---------------|-------|
| Comprehension | MCQ |

পারসিক উপাদান অনুযায়ী যারা চুক্তির ভিত্তিতে চাষাবাদ করতো যে অঞ্চলে তাদের বসতি ছিল না, অর্থাৎ বাসিন্দা নয় এমন চাষীদের বলা হত:

1. খুদ-কত
2. পাহি-কত
3. মুকাদ্দম
4. মুজারিয়ন

Options :

485584146017. 1
485584146018. 2
485584146019. 3
485584146020. 4

Question Number : 121 Question Id : 48558436506 Question Type : MCQ Option Shuffling : No Is Question Mandatory : No Calculator : None Response Time : N.A Think Time : N.A Minimum Instruction Time : 0

Correct Marks : 5 Wrong Marks : 1

Question Key Details :

| Key | Value |
|---------------|-------|
| Comprehension | MCQ |

Identify the **correct** sequence of the chronicles written during the Mughal period.

- A. Akbar Nama
- B. Alangir Nama
- C. Char Chaman
- D. Jahangir Nama
- E. Humayun Nama

Choose the **correct** answer from the options given below:

1. A, C, B, D, E
2. A, D, B, C, E
3. E, A, B, D, C
4. E, A, D, C, B

Options :

485584146021. 1
485584146022. 2
485584146023. 3
485584146024. 4

Question Number : 121 Question Id : 48558436506 Question Type : MCQ Option Shuffling : No Is Question Mandatory : No Calculator : None Response Time : N.A Think Time : N.A Minimum Instruction Time : 0

Correct Marks : 5 Wrong Marks : 1

Question Key Details :

| Key | Value |
|---------------|-------|
| Comprehension | MCQ |

মুঘল আমলে রচিত ঐতিহাসিক বৃত্তান্তগুলি সঠিক ক্রমানুসারে সাজাও

- A. আকবর নামা
- B. আলমগীর নামা
- C. চর চামন
- D. জাহাঙ্গীর নামা
- E. হুমায়ুন নামা

নিচে দেওয়া বিকল্পগুলি থেকে সঠিক উত্তর নির্বাচন কর:

- 1. A, C, B, D, E
- 2. A, D, B, C, E
- 3. E, A, B, D, C
- 4. E, A, D, C, B

Options :

- 485584146021. 1
- 485584146022. 2
- 485584146023. 3
- 485584146024. 4

Question Number : 122 Question Id : 48558436507 Question Type : MCQ Option Shuffling : No Is Question Mandatory : No Calculator : None Response Time : N.A Think Time : N.A Minimum Instruction Time : 0

Correct Marks : 5 Wrong Marks : 1

Question Key Details :

| Key | Value |
|---------------|-------|
| Comprehension | MCQ |

Which minister looked after the finances in the Mughal Empire?

- 1. Sadr-us-Sadr
- 2. Diwan-i-Ala
- 3. Mir Bakshi
- 4. Mir Saman

Options :

- 485584146025. 1
- 485584146026. 2
- 485584146027. 3
- 485584146028. 4

Question Number : 122 Question Id : 48558436507 Question Type : MCQ Option Shuffling : No Is Question Mandatory : No Calculator : None Response Time : N.A Think Time : N.A Minimum Instruction Time : 0

Correct Marks : 5 Wrong Marks : 1

Question Key Details :

| Key | Value |
|---------------|-------|
| Comprehension | MCQ |

মুঘল সাম্রাজ্যে অর্থ ব্যবস্থা পরিচালনা করতেন কোন মন্ত্রী ?

1. সদর-উম-সদুর
2. দিওয়ান-ই-আলা
3. মীর বক্সী
4. মীর সামন

Options :

485584146025. 1
485584146026. 2
485584146027. 3
485584146028. 4

Question Number : 123 Question Id : 48558436508 Question Type : MCQ Option Shuffling : No Is Question Mandatory : No Calculator : None Response Time : N.A Think Time : N.A Minimum Instruction Time : 0

Correct Marks : 5 Wrong Marks : 1

Question Key Details :

| Key | Value |
|---------------|-------|
| Comprehension | MCQ |

Whom did Akbar honour with the title "Zarrin qalam"?

1. Muhammad Husayn
2. Abul Hasan
3. Payag
4. Abdul Hamid Lahori

Options :

485584146029. 1
485584146030. 2
485584146031. 3
485584146032. 4

Question Number : 123 Question Id : 48558436508 Question Type : MCQ Option Shuffling : No Is Question Mandatory : No Calculator : None Response Time : N.A Think Time : N.A Minimum Instruction Time : 0

Correct Marks : 5 Wrong Marks : 1

Question Key Details :

| Key | Value |
|---------------|-------|
| Comprehension | MCQ |

আকবর কাকে " জারীন কালাম " উপাধিতে সম্মানিত করেছিলেন ?

1. মহম্মদ হুসায়ন
2. আবুল হাসান
3. পয়গ
4. আব্দুল হামিদ লাহোরি

Options :

485584146029. 1
485584146030. 2
485584146031. 3
485584146032. 4

Question Number : 124 Question Id : 48558436509 Question Type : MCQ Option Shuffling : No Is Question Mandatory : No Calculator : None Response Time : N.A Think Time : N.A Minimum Instruction Time : 0

Correct Marks : 5 Wrong Marks : 1

Question Key Details :

| Key | Value |
|---------------|-------|
| Comprehension | MCQ |

The Permanent Settlement came into operation in _____

1. 1864
2. 1757
3. 1793
4. 1800

Options :

485584146033. 1
485584146034. 2
485584146035. 3
485584146036. 4

Question Number : 124 Question Id : 48558436509 Question Type : MCQ Option Shuffling : No Is Question Mandatory : No Calculator : None Response Time : N.A Think Time : N.A Minimum Instruction Time : 0

Correct Marks : 5 Wrong Marks : 1

Question Key Details :

| Key | Value |
|---------------|-------|
| Comprehension | MCQ |

চিরস্থায়ী বন্দোবস্ত কার্যকরী হয়েছিল :

1. 1864
2. 1757
3. 1793
4. 1800

Options :

485584146033. 1
485584146034. 2
485584146035. 3
485584146036. 4

Question Number : 125 Question Id : 48558436510 Question Type : MCQ Option Shuffling : No Is Question Mandatory : No Calculator : None Response Time : N.A Think Time : N.A Minimum Instruction Time : 0

Correct Marks : 5 Wrong Marks : 1

Question Key Details :

| Key | Value |
|---------------|-------|
| Comprehension | MCQ |

The Manchester Cotton Company was formed in the year _____.

1. 1857
2. 1858
3. 1859
4. 1860

Options :

485584146037. 1
485584146038. 2
485584146039. 3
485584146040. 4

Question Number : 125 Question Id : 48558436510 Question Type : MCQ Option Shuffling : No Is Question Mandatory : No Calculator : None Response Time : N.A Think Time : N.A Minimum Instruction Time : 0

Correct Marks : 5 Wrong Marks : 1

Question Key Details :

| Key | Value |
|---------------|-------|
| Comprehension | MCQ |

কোন বছরে _____ ম্যাথেন্সটার কটন কোম্পানি গঠিত হয়েছিল

1. 1857
2. 1858
3. 1859
4. 1860

Options :

485584146037. 1
485584146038. 2
485584146039. 3
485584146040. 4

Question Number : 126 Question Id : 48558436511 Question Type : MCQ Option Shuffling : No Is Question Mandatory : No Calculator : None Response Time : N.A Think Time : N.A Minimum Instruction Time : 0

Correct Marks : 5 Wrong Marks : 1

Question Key Details :

| Key | Value |
|---------------|-------|
| Comprehension | MCQ |

Before the age of railway, the town of Mirzapur was a collection centre for cotton from which area?

1. Punjab
2. Tamil Nadu
3. Gujarat
4. Deccan

Options :

485584146041. 1
485584146042. 2
485584146043. 3
485584146044. 4

Question Number : 126 Question Id : 48558436511 Question Type : MCQ Option Shuffling : No Is Question Mandatory : No Calculator : None Response Time : N.A Think Time : N.A Minimum Instruction Time : 0

Correct Marks : 5 Wrong Marks : 1

Question Key Details :

| Key | Value |
|---------------|-------|
| Comprehension | MCQ |

রেলপথের যুগের পূর্বে মির্জাপুর শহর কোন অঞ্চলের তুলা সংগ্রহের কেন্দ্র ছিল ?

1. পঞ্জাব
2. তামিলনাড়ু
3. গুজরাট
4. দাক্ষিণাত্য

Options :

485584146041. 1
485584146042. 2
485584146043. 3
485584146044. 4

Question Number : 127 Question Id : 48558436512 Question Type : MCQ Option Shuffling : No Is Question Mandatory : No Calculator : None Response Time : N.A Think Time : N.A Minimum Instruction Time : 0

Correct Marks : 5 Wrong Marks : 1

Question Key Details :

| Key | Value |
|---------------|-------|
| Comprehension | MCQ |

Satyajit Ray's film 'Jalshaghar' dealt with the subject matter of _____.

1. India's freedom struggle.
2. The decline of the aristocratic zamindari style of living.
3. Revolt of 1857.
4. Swadeshi Movement in Bengal.

Options :

485584146045. 1
485584146046. 2
485584146047. 3
485584146048. 4

Question Number : 127 Question Id : 48558436512 Question Type : MCQ Option Shuffling : No Is Question Mandatory : No Calculator : None Response Time : N.A Think Time : N.A Minimum Instruction Time : 0

Correct Marks : 5 Wrong Marks : 1

Question Key Details :

| Key | Value |
|---------------|-------|
| Comprehension | MCQ |

সত্যজিৎ রায়ের চলচ্চিত্র 'জলসাঘর' এর বিষয়বস্তুঃ

1. ভারতের স্বাধীনতা সংগ্রাম
2. অভিজাত জমিদারি জীবনযাপনের অধঃপতন
3. 1857 র বিদ্রোহ
4. বাংলার স্বদেশী আন্দোলন

Options :

485584146045. 1
485584146046. 2
485584146047. 3
485584146048. 4

Question Number : 128 Question Id : 48558436513 Question Type : MCQ Option Shuffling : No Is Question Mandatory : No Calculator : None Response Time : N.A Think Time : N.A Minimum Instruction Time : 0

Correct Marks : 5 Wrong Marks : 1

Question Key Details :

| Key | Value |
|---------------|-------|
| Comprehension | MCQ |

Who organised the zoo which later on became the Calcutta Alipore Zoo?

1. Francis Buchanan
2. Augustus Cornwallis
3. Charles Cornwallis
4. Maharaja Mehtab Chand

Options :

485584146049. 1
485584146050. 2
485584146051. 3
485584146052. 4

Question Number : 128 Question Id : 48558436513 Question Type : MCQ Option Shuffling : No Is Question Mandatory : No Calculator : None Response Time : N.A Think Time : N.A Minimum Instruction Time : 0

Correct Marks : 5 Wrong Marks : 1

Question Key Details :

| Key | Value |
|---------------|-------|
| Comprehension | MCQ |

কে চিড়িয়াখানা গড়ে তুলেছিলেন, যেটি পরবর্তীকালে ক্যালকাটা আলিপুর চিড়িয়াখানায় পরিণত হয় ?

1. ফ্রান্সিস বুকানন
2. অগাস্টাস কর্ণওয়ালিশ
3. চার্লস কর্ণওয়ালিশ
4. মহারাজা মেহতাব চাঁদ

Options :

485584146049. 1
485584146050. 2
485584146051. 3
485584146052. 4

Question Number : 129 Question Id : 48558436514 Question Type : MCQ Option Shuffling : No Is Question Mandatory : No Calculator : None Response Time : N.A Think Time : N.A Minimum Instruction Time : 0

Correct Marks : 5 Wrong Marks : 1

Question Key Details :

| Key | Value |
|---------------|-------|
| Comprehension | MCQ |

Where is 'Borah Bazaar' located?

1. Madras
2. Bombay
3. Lucknow
4. Shimla

Options :

485584146053. 1
485584146054. 2
485584146055. 3
485584146056. 4

Question Number : 129 Question Id : 48558436514 Question Type : MCQ Option Shuffling : No Is Question Mandatory : No Calculator : None Response Time : N.A Think Time : N.A Minimum Instruction Time : 0

Correct Marks : 5 Wrong Marks : 1

Question Key Details :

| Key | Value |
|---------------|-------|
| Comprehension | MCQ |

কোথায় বোরা বাজার অবস্থিত ছিল ?

1. মাদ্রাজ
2. বোম্বে
3. লক্ষ্ণৌ
4. সিমলা

Options :

485584146053. 1
485584146054. 2
485584146055. 3
485584146056. 4

Question Number : 130 Question Id : 48558436515 Question Type : MCQ Option Shuffling : No Is Question Mandatory : No Calculator : None Response Time : N.A Think Time : N.A Minimum Instruction Time : 0

Correct Marks : 5 Wrong Marks : 1

Question Key Details :

| Key | Value |
|---------------|-------|
| Comprehension | MCQ |

Name the historian who remarked that South Africa was "the making of Mahatma".

1. Lala Lajpat Rai
2. Bal Gangadhar Tilak
3. Chandran Devanesan
4. Abindranath Tagore

Options :

485584146057. 1
485584146058. 2
485584146059. 3
485584146060. 4

Question Number : 130 Question Id : 48558436515 Question Type : MCQ Option Shuffling : No Is Question Mandatory : No Calculator : None Response Time : N.A Think Time : N.A Minimum Instruction Time : 0

Correct Marks : 5 Wrong Marks : 1

Question Key Details :

| Key | Value |
|---------------|-------|
| Comprehension | MCQ |

দক্ষিণ আফ্রিকাকে কোন ইতিহাসবিদ "মহাত্মার তৈরি" বলে চিহ্নিত করেছিলেন ?

1. লালা লাজপত রায়
2. বাল গঙ্গাধর তিলক
3. চন্দ্রন দেবানেসন
4. অবীন্দ্রনাথ ঠাকুর

Options :

485584146057. 1
485584146058. 2
485584146059. 3
485584146060. 4

Question Number : 131 Question Id : 48558436516 Question Type : MCQ Option Shuffling : No Is Question Mandatory : No Calculator : None Response Time : N.A Think Time : N.A Minimum Instruction Time : 0

Correct Marks : 5 Wrong Marks : 1

Question Key Details :

| Key | Value |
|---------------|-------|
| Comprehension | MCQ |

Who from among the following nationalist leaders belonged to the group of Moderates?

1. Bipin Chandra Pal
2. Bal Gangadhar Tilak
3. Gopal Krishna Gokhale
4. Chandrashekhhar Azad

Options :

485584146061. 1
485584146062. 2
485584146063. 3
485584146064. 4

Question Number : 131 Question Id : 48558436516 Question Type : MCQ Option Shuffling : No Is Question Mandatory : No Calculator : None Response Time : N.A Think Time : N.A Minimum Instruction Time : 0

Correct Marks : 5 Wrong Marks : 1

Question Key Details :

| Key | Value |
|---------------|-------|
| Comprehension | MCQ |

নিচের জাতীয়তাবাদী নেতৃবর্গের মধ্যে কে নরমপন্থী গোষ্ঠীভুক্ত ছিলেন ?

1. বিপিন চন্দ্র পাল
2. বাল গঙ্গাধর তিলক
3. গোপাল কৃষ্ণ গোখলে
4. চন্দ্রশেখর আজাদ

Options :

485584146061. 1
485584146062. 2
485584146063. 3
485584146064. 4

Question Number : 132 Question Id : 48558436517 Question Type : MCQ Option Shuffling : No Is Question Mandatory : No Calculator : None Response Time : N.A Think Time : N.A Minimum Instruction Time : 0

Correct Marks : 5 Wrong Marks : 1

Question Key Details :

| Key | Value |
|---------------|-------|
| Comprehension | MCQ |

Who amongst the following were close associates of Gandhi in the years 1917-1922?

- A. Vallabhbhai Patel
- B. Subhas Chandra Bose
- C. Annie Besant
- D. Govind Ballabh Pant
- E. B.R. Ambedkar

Choose the correct answer from the options given below:

1. A, C, E only
2. A, B, E only
3. B, D, C only
4. A, B, D only

Options :

485584146065. 1
485584146066. 2
485584146067. 3
485584146068. 4

Question Number : 132 Question Id : 48558436517 Question Type : MCQ Option Shuffling : No Is Question Mandatory : No Calculator : None Response Time : N.A Think Time : N.A Minimum Instruction Time : 0

Correct Marks : 5 Wrong Marks : 1

Question Key Details :

| Key | Value |
|-----|-------|
|-----|-------|

1917-1922 সালে গান্ধীর ঘনিষ্ঠ সহযোগী নিম্নে উল্লেখিত কারা ছিলেন ?

- A. বল্লভভাই প্যাটেল
- B. সুভাষচন্দ্র বসু
- C. আনি বেশান্ত
- D. গোবিন্দ বল্লভ পন্থ
- E. বি.আর.আম্বেদকর

নিচে প্রদত্ত বিকল্পগুলি থেকে সঠিক উত্তর নির্বাচন কর:

- 1. A, C, E একমাত্র
- 2. A, B, E একমাত্র
- 3. B, D, C একমাত্র
- 4. A, B, D একমাত্র

Options :

- 485584146065. 1
- 485584146066. 2
- 485584146067. 3
- 485584146068. 4

Question Number : 133 Question Id : 48558436518 Question Type : MCQ Option Shuffling : No Is Question Mandatory : No Calculator : None Response Time : N.A Think Time : N.A Minimum Instruction Time : 0

Correct Marks : 5 Wrong Marks : 1

Question Key Details :

| Key | Value |
|---------------|-------|
| Comprehension | MCQ |

Match List I with List II:

| LIST I | | LIST II | |
|--------|---------------------|---------|------|
| A. | Dandi March | I. | 1917 |
| B. | Khilafat Movement | II. | 1942 |
| C. | Quit India Movement | III. | 1921 |
| D. | Champaran Movement | IV. | 1930 |

Choose the correct answer from the options given below:

- 1. A-I, B-II, C-III, D-IV
- 2. A-II, B-IV, C-I, D-III
- 3. A-IV, B-III, C-II, D-I
- 4. A-III, B-IV, C-I, D-II

Options :

- 485584146069. 1

485584146070. 2

485584146071. 3

485584146072. 4

Question Number : 133 Question Id : 48558436518 Question Type : MCQ Option Shuffling : No Is Question Mandatory : No Calculator : None Response Time : N.A Think Time : N.A Minimum Instruction Time : 0

Correct Marks : 5 Wrong Marks : 1

Question Key Details :

| Key | Value |
|---------------|-------|
| Comprehension | MCQ |

I নং তালিকা II নং তালিকার সঙ্গে মেলাও:-

| তালিকা I | | তালিকা II | |
|----------|--------------------|-----------|------|
| A. | ডাল্ডি মার্চ | I. | 1917 |
| B. | খিলাফত আন্দোলন | II. | 1942 |
| C. | ভারত ছাড়ো আন্দোলন | III. | 1921 |
| D. | চম্পারণ আন্দোলন | IV. | 1930 |

নিচে প্রদত্ত বিকল্পগুলি থেকে সঠিক উত্তর নির্বাচন কর:

1. A-I, B-II, C-III, D-IV

2. A-II, B-IV, C-I, D-III

3. A-IV, B-III, C-II, D-I

4. A-III, B-IV, C-I, D-II

Options :

485584146069. 1

485584146070. 2

485584146071. 3

485584146072. 4

Question Number : 134 Question Id : 48558436519 Question Type : MCQ Option Shuffling : No Is Question Mandatory : No Calculator : None Response Time : N.A Think Time : N.A Minimum Instruction Time : 0

Correct Marks : 5 Wrong Marks : 1

Question Key Details :

| Key | Value |
|---------------|-------|
| Comprehension | MCQ |

Chronologically arrange the following movements led by Mahatma Gandhi.

- A. Rowlatt Satyagraha
- B. Kheda Movement
- C. Champaran Satyagraha
- D. Ahmedabad Mill Strike
- E. Dandi March

Choose the correct answer from the options given below:

- 1. A, B, C, D, E
- 2. B, D, C, A, E
- 3. C, D, B, A, E
- 4. C, A, B, D, E

Options :

- 485584146073. 1
- 485584146074. 2
- 485584146075. 3
- 485584146076. 4

Question Number : 134 Question Id : 48558436519 Question Type : MCQ Option Shuffling : No Is Question Mandatory : No Calculator : None Response Time : N.A Think Time : N.A Minimum Instruction Time : 0

Correct Marks : 5 Wrong Marks : 1

Question Key Details :

| Key | Value |
|---------------|-------|
| Comprehension | MCQ |

মহাত্মা গান্ধীর নেতৃত্বাধীন নিচের আন্দোলনগুলি কালানুক্রমিকভাবে সাজাও-

- A. রাওলাট সত্যাগ্রহ
- B. খেদা আন্দোলন
- C. চম্পারণ সত্যাগ্রহ
- D. আমেদাবাদ কারখানা ধর্মঘট
- E. ডান্ডি পদযাত্রা

নিচের বিকল্পগুলির থেকে সঠিক উত্তরটি নির্বাচন কর:

- 1. A, B, C, D, E
- 2. B, D, C, A, E
- 3. C, D, B, A, E
- 4. C, A, B, D, E

Options :

- 485584146073. 1
- 485584146074. 2
- 485584146075. 3

485584146076. 4

Question Number : 135 Question Id : 48558436520 Question Type : MCQ Option Shuffling : No Is Question Mandatory : No Calculator : None Response Time : N.A Think Time : N.A Minimum Instruction Time : 0

Correct Marks : 5 Wrong Marks : 1

Question Key Details :

| Key | Value |
|---------------|-------|
| Comprehension | MCQ |

The 'Hindu Mahasabha' was founded in _____.

1. 1917

2. 1915

3. 1916

4. 1919

Options :

485584146077. 1

485584146078. 2

485584146079. 3

485584146080. 4

Question Number : 135 Question Id : 48558436520 Question Type : MCQ Option Shuffling : No Is Question Mandatory : No Calculator : None Response Time : N.A Think Time : N.A Minimum Instruction Time : 0

Correct Marks : 5 Wrong Marks : 1

Question Key Details :

| Key | Value |
|---------------|-------|
| Comprehension | MCQ |

হিন্দু মহাসভা প্রতিষ্ঠিত হয়েছিলঃ

1. 1917

2. 1915

3. 1916

4. 1919

Options :

485584146077. 1

485584146078. 2

485584146079. 3

485584146080. 4

Question Number : 136 Question Id : 48558436521 Question Type : MCQ Option Shuffling : No Is Question Mandatory : No Calculator : None Response Time : N.A Think Time : N.A Minimum Instruction Time : 0

Correct Marks : 5 Wrong Marks : 1

Question Key Details :

| Key | Value |
|-----|-------|
|-----|-------|

On which date did the Constituent Assembly begin its sessions?

1. 6 December 1946
2. 9 December 1946
3. 15 July 1946
4. 16 July 1946

Options :

485584146081. 1
485584146082. 2
485584146083. 3
485584146084. 4

Question Number : 136 Question Id : 48558436521 Question Type : MCQ Option Shuffling : No Is Question Mandatory : No Calculator : None Response Time : N.A Think Time : N.A Minimum Instruction Time : 0

Correct Marks : 5 Wrong Marks : 1

Question Key Details :

| Key | Value |
|---------------|-------|
| Comprehension | MCQ |

কোন তারিখে সংবিধান পরিষদ তার অধিবেশন শুরু করে?

1. 6 ডিসেম্বর 1946
2. 9 ডিসেম্বর 1946
3. 15 জুলাই 1946
4. 16 জুলাই 1946

Options :

485584146081. 1
485584146082. 2
485584146083. 3
485584146084. 4

Question Number : 137 Question Id : 48558436522 Question Type : MCQ Option Shuffling : No Is Question Mandatory : No Calculator : None Response Time : N.A Think Time : N.A Minimum Instruction Time : 0

Correct Marks : 5 Wrong Marks : 1

Question Key Details :

| Key | Value |
|---------------|-------|
| Comprehension | MCQ |

Match List I with List II:

| LIST I | | LIST II | |
|--------|---------------------------------|---------|----------------|
| A. | Cultural and Educational Rights | I. | Articles 25-28 |
| B. | Right to Equality | II. | Articles 17 |
| C. | Freedom of Religion | III. | Article 14-16 |
| D. | Abolition of Untouchability | IV. | Articles 29,30 |

Choose the correct answer from the options given below:

1. A-II, B-III, C-IV, D-I
2. A-IV, B-III, C-II, D-I
3. A-I, B-II, C-III, D-IV
4. A-IV, B-III, C-I, D-II

Options :

485584146085. 1
485584146086. 2
485584146087. 3
485584146088. 4

Question Number : 137 Question Id : 48558436522 Question Type : MCQ Option Shuffling : No Is Question Mandatory : No Calculator : None Response Time : N.A Think Time : N.A Minimum Instruction Time : 0

Correct Marks : 5 Wrong Marks : 1

Question Key Details :

| Key | Value |
|---------------|-------|
| Comprehension | MCQ |

I নং তালিকা II নং তালিকার সঙ্গে মেলাও :-

| তালিকা I | | তালিকা II | |
|----------|-------------------------------------|-----------|----------------|
| A. | সাংস্কৃতিক ও শিক্ষাসংক্রান্ত অধিকার | I. | অনুচ্ছেদ 25-28 |
| B. | সাম্যের অধিকার | II. | অনুচ্ছেদ 17 |
| C. | ধর্মীয় স্বাধীনতা | III. | অনুচ্ছেদ 14-16 |
| D. | অস্পৃশ্যতা রদ | IV. | অনুচ্ছেদ 29,30 |

নিম্নে প্রদত্ত বিকল্পগুলি থেকে সঠিক উত্তরটি নির্ধারণ কর:

1. A-II, B-III, C-IV, D-I
2. A-IV, B-III, C-II, D-I
3. A-I, B-II, C-III, D-IV
4. A-IV, B-III, C-I, D-II

Options :

485584146085. 1
485584146086. 2
485584146087. 3

485584146088. 4

Question Number : 138 Question Id : 48558436523 Question Type : MCQ Option Shuffling : No Is Question Mandatory : No Calculator : None Response Time : N.A Think Time : N.A Minimum Instruction Time : 0

Correct Marks : 5 Wrong Marks : 1

Question Key Details :

| Key | Value |
|---------------|-------|
| Comprehension | MCQ |

Who were the two other lawyers serving with B.R. Ambedkar on the Drafting Committee of the Constitution?

- A. K.M. Munshi
- B. B.N Rau
- C. Alladi Krishnaswamy Aiyar
- D. S.N. Mukherjee
- E. Rajendra Prasad

Choose the correct answer from the options given below:

- 1. A, B only
- 2. B, C only
- 3. A, C only
- 4. D, E only

Options :

- 485584146089. 1
- 485584146090. 2
- 485584146091. 3
- 485584146092. 4

Question Number : 138 Question Id : 48558436523 Question Type : MCQ Option Shuffling : No Is Question Mandatory : No Calculator : None Response Time : N.A Think Time : N.A Minimum Instruction Time : 0

Correct Marks : 5 Wrong Marks : 1

Question Key Details :

| Key | Value |
|---------------|-------|
| Comprehension | MCQ |

অন্য আরও দুজন আইনজ্ঞ কারা ছিলেন, যারা বি.আর.আবেদকারের সঙ্গে সংবিধানের খসড়া রচনায় কাজ করেছিলেন?

- A. কে.এম.মুন্সি
- B. বি.এন.রাউ
- C. আলাদি কৃষ্ণস্বামী আয়ার
- D. এস.এন.মুখার্জী
- E. রাজেন্দ্র প্রসাদ

নিচে প্রদত্ত বিকল্পগুলি থেকে সঠিক উত্তরটি খুঁজে নাও:

1. A এবং B একমাত্র
2. B এবং C একমাত্র
3. A এবং C একমাত্র
4. D এবং E একমাত্র

Options :

- 485584146089. 1
- 485584146090. 2
- 485584146091. 3
- 485584146092. 4

Question Number : 139 Question Id : 48558436524 Question Type : MCQ Option Shuffling : No Is Question Mandatory : No Calculator : None Response Time : N.A Think Time : N.A Minimum Instruction Time : 0

Correct Marks : 5 Wrong Marks : 1

Question Key Details :

| Key | Value |
|---------------|-------|
| Comprehension | MCQ |

Arrange the following in a chronological order:

- A. Constituent Assembly begins its session.
- B. Muslim League accepts Cabinet Mission's constitutional scheme.
- C. Muslim League decides to join the Interim Government.
- D. Muslim League announces Direct Action Day.
- E. Muslim League demands dissolution of the Constituent Assembly.

Choose the correct answer from the options given below:

1. B, D, C, A, E
2. B, A, D, C, E
3. A, B, C, D, E
4. D, A, E, B, C

Options :

- 485584146093. 1

485584146094. 2

485584146095. 3

485584146096. 4

Question Number : 139 Question Id : 48558436524 Question Type : MCQ Option Shuffling : No Is Question Mandatory : No Calculator : None Response Time : N.A Think Time : N.A Minimum Instruction Time : 0

Correct Marks : 5 Wrong Marks : 1

Question Key Details :

| Key | Value |
|---------------|-------|
| Comprehension | MCQ |

নিচের ঘটনাবলী কালক্রম অনুযায়ী সাজাও :

- A. সংবিধান পরিষদ অধিবেশন শুরু করে
- B. মুসলিম লীগ ক্যাবিনেট মিশনের সাংবিধানিক পরিকল্পনা গ্রহণ করে
- C. মুসলিম লীগ অস্তবর্তী সরকারে যোগদানের সিদ্ধান্ত নেয়
- D. মুসলিম লীগ প্রত্যক্ষ সংগ্রাম দিবসের ঘোষণা করে
- E. মুসলিম লীগ সংবিধান পরিষদ ভেঙে দেওয়ার দাবী জানায়

নিম্নে প্রদত্ত বিকল্পগুলির থেকে সঠিক উত্তরটি বেছে নাও:

- 1. B, D, C, A, E
- 2. B, A, D, C, E
- 3. A, B, C, D, E
- 4. D, A, E, B, C

Options :

485584146093. 1

485584146094. 2

485584146095. 3

485584146096. 4

Question Number : 140 Question Id : 48558436525 Question Type : MCQ Option Shuffling : No Is Question Mandatory : No Calculator : None Response Time : N.A Think Time : N.A Minimum Instruction Time : 0

Correct Marks : 5 Wrong Marks : 1

Question Key Details :

| Key | Value |
|---------------|-------|
| Comprehension | MCQ |

Which of the following statements are **True** for the Constituent Assembly?

- A. It was boycotted by the Muslim League.
- B. It was elected by Universal Franchise.
- C. Its members were chosen by Provincial Legislatures.
- D. Majority of its members belonged to the Socialist Party.
- E. Constituent Assembly was dominated by three parties.

Choose the **correct** answer from the options given below:

- 1. A, E only
- 2. B, D only
- 3. A, C only
- 4. B, E only

Options :

- 485584146097. 1
- 485584146098. 2
- 485584146099. 3
- 485584146100. 4

Question Number : 140 Question Id : 48558436525 Question Type : MCQ Option Shuffling : No Is Question Mandatory : No Calculator : None Response Time : N.A Think Time : N.A Minimum Instruction Time : 0

Correct Marks : 5 Wrong Marks : 1

Question Key Details :

| Key | Value |
|---------------|-------|
| Comprehension | MCQ |

নিচের বিবৃতিগুলির মধ্যে কোন কোনটি সংবিধান পরিষদের ক্ষেত্রে সত্য ?

- A. এটি মুসলিম লীগ কর্তৃক বয়কট করা হয়।
- B. এটি সর্বজনীন ভোটাধিকার দ্বারা নির্বাচিত করা হয়।
- C. প্রাদেশিক আইনসভা দ্বারা সদস্যদের বাছাই করা হয়।
- D. এর সদস্যরা অধিকাংশই সমাজবাদী পার্টির অন্তর্ভুক্ত ছিল।
- E. সংবিধান পরিষদ তিনটি পার্টির দ্বারাই প্রভাবিত ছিল।

নিম্নে প্রদত্ত বিকল্পগুলির থেকে সঠিক উত্তরটি নির্বাচন কর:

- 1. A এবং E একমাত্র
- 2. B এবং D একমাত্র
- 3. A এবং C একমাত্র
- 4. B এবং E একমাত্র

Options :

- 485584146097. 1
- 485584146098. 2

485584146099. 3

485584146100. 4

Sub-Section Number : 2
Sub-Section Id : 4855842697
Question Shuffling Allowed : No
Is Section Default? : null

Question Number : 141 Question Id : 48558436526 Question Type : MCQ Option Shuffling : No Is Question Mandatory : No Calculator : None Response Time : N.A Think Time : N.A Minimum Instruction Time : 0

Correct Marks : 5 Wrong Marks : 1

Question Key Details :

| Key | Value |
|---------------|-------|
| Comprehension | Comp1 |

Read the passage and answer the questions :

According to Buddhist philosophy, the world is transient (anicca) and constantly changing; it is also soulless (anatta) as there is nothing permanent or eternal in it. Within this transient world, sorrow (dukkha) is intrinsic to human existence. It is by following the path of moderation between severe penance and self indulgence that human beings can rise above these worldly troubles. In the earliest forms of Buddhism whether or not god existed was irrelevant.

Which of the following statement is **NOT True** regarding the Buddhist philosophy?

1. The world is transient and constantly changing.
2. Sorrow is intrinsic to human existence.
3. Humans can rise above sorrow by following the path of severe penance and self-indulgence.
4. The world is soulless as there is nothing permanent or eternal in it.

Options :

485584146101. 1

485584146102. 2

485584146103. 3

485584146104. 4

Question Number : 141 Question Id : 48558436526 Question Type : MCQ Option Shuffling : No Is Question Mandatory : No Calculator : None Response Time : N.A Think Time : N.A Minimum Instruction Time : 0

Correct Marks : 5 Wrong Marks : 1

Question Key Details :

| Key | Value |
|---------------|-------|
| Comprehension | Comp1 |

বৌদ্ধ দর্শন মতে, জগৎ অস্থায়ী এবং অবিরত পরিবর্তনশীল, মহত্বহীনও বটে (অনন্ত) কোন কিছুই স্থায়ী নয় বা শাস্বত কিছু নেই। এই ঋণস্থায়ী জগতের মধ্যে দুঃখ মানুষের জীবনের অস্তিত্বে সহজাত। গভীর অনুশোচনা ও নিজ ইচ্ছে পূরণের মাঝামাঝি পথ অনুসরণের মাধ্যমে মানুষ জাগতিক দুঃখ কষ্টের উর্ধ্বে উঠতে পারে। বৌদ্ধ ধর্মের আদিতে ভগবানের অস্তিত্ব আছে কি নেই তা অপ্রাসঙ্গিক ছিল।

নিচের কোন বিবৃতিটি বৌদ্ধ দর্শন মতে সত্য নয়

1. জগৎ ক্ষণস্থায়ী ও নিয়ত পরিবর্তনশীল
2. মানব জীবনে দুঃখ সহজাত
3. গভীর অনুশোচনা ও নিজ ইচ্ছে পূরণের পথ অনুসরণের মাধ্যমে মানুষ দুঃখের উর্ধ্ব উঠতে পারে
4. জগৎ মহত্ত্বহীন-কোন কিছুই স্থায়ী নয় বা শাস্তত কিছু এখানে নেই

Options :

485584146101. 1
485584146102. 2
485584146103. 3
485584146104. 4

Question Number : 142 Question Id : 48558436527 Question Type : MCQ Option Shuffling : No Is Question Mandatory : No Calculator : None Response Time : N.A Think Time : N.A Minimum Instruction Time : 0

Correct Marks : 5 Wrong Marks : 1

Question Key Details :

| Key | Value |
|---------------|-------|
| Comprehension | Comp1 |

Read the passage and answer the questions :

According to Buddhist philosophy, the world is transient (anicca) and constantly changing; it is also soulless (anatta) as there is nothing permanent or eternal in it. Within this transient world, sorrow (dukkha) is intrinsic to human existence. It is by following the path of moderation between severe penance and self indulgence that human beings can rise above these worldly troubles. In the earliest forms of Buddhism whether or not god existed was irrelevant.

Which of the following idea is **NOT** a part of the teachings of the Buddha?

1. Importance of right conduct and values.
2. Claims of superiority based on birth.
3. Metta (fellow feeling).
4. Karuna (compassion).

Options :

485584146105. 1
485584146106. 2
485584146107. 3
485584146108. 4

Question Number : 142 Question Id : 48558436527 Question Type : MCQ Option Shuffling : No Is Question Mandatory : No Calculator : None Response Time : N.A Think Time : N.A Minimum Instruction Time : 0

Correct Marks : 5 Wrong Marks : 1

Question Key Details :

| Key | Value |
|---------------|-------|
| Comprehension | Comp1 |

বৌদ্ধ দর্শন মতে, জগৎ অস্থায়ী এবং অবিরত পরিবর্তনশীল, মহত্বহীনও বটে (অনন্ত) কোন কিছুই স্থায়ী নয় বা শাস্ত্বত কিছু নেই। এই ক্ষণস্থায়ী জগতের মধ্যে দুঃখ মানুষের জীবনের অস্তিত্বে সহজাত। গভীর অনুশোচনা ও নিজ ইচ্ছে পূরণের মাঝামাঝি পথ অনুসরণের মাধ্যমে মানুষ জাগতিক দুঃখ কষ্টের উর্ধ্বে উঠতে পারে। বৌদ্ধ ধর্মের আদিতে ভগবানের অস্তিত্ব আছে কি নেই তা অপ্রাসঙ্গিক ছিল।

নিচের কোন ধারণা বুদ্ধের শিক্ষার একটি অংশ নয় ?

1. সদাচরণ ও নীতির সারবস্তুর গুরুত্ব
2. জন্মের ভিত্তিতে শ্রেষ্ঠত্ব দাবী
3. মেস্তা (সহমর্মিতা)
4. করুণা (সহানুভূতি)

Options :

485584146105. 1
485584146106. 2
485584146107. 3
485584146108. 4

Question Number : 143 Question Id : 48558436528 Question Type : MCQ Option Shuffling : No Is Question Mandatory : No Calculator : None Response Time : N.A Think Time : N.A Minimum Instruction Time : 0

Correct Marks : 5 Wrong Marks : 1

Question Key Details :

| Key | Value |
|---------------|-------|
| Comprehension | Comp1 |

Read the passage and answer the questions :

According to Buddhist philosophy, the world is transient (anicca) and constantly changing; it is also soulless (anatta) as there is nothing permanent or eternal in it. Within this transient world, sorrow (dukkha) is intrinsic to human existence. It is by following the path of moderation between severe penance and self indulgence that human beings can rise above these worldly troubles. In the earliest forms of Buddhism whether or not god existed was irrelevant.

In Buddhism, the followers of the older tradition, who followed the old path and respected teachers, described themselves as:

1. Theravadins
2. Mahayanas
3. Taravadins
4. Tantrics

Options :

485584146109. 1
485584146110. 2
485584146111. 3
485584146112. 4

Question Number : 143 Question Id : 48558436528 Question Type : MCQ Option Shuffling : No Is Question Mandatory : No Calculator : None Response Time : N.A Think Time : N.A Minimum Instruction Time : 0

Correct Marks : 5 Wrong Marks : 1

Question Key Details :

| Key | Value |
|---------------|-------|
| Comprehension | Comp1 |

বৌদ্ধ দর্শন মতে, জগৎ অস্থায়ী এবং অবিরত পরিবর্তনশীল. মহত্বহীনও বটে (অনন্ত) কোন কিছুই স্থায়ী নয় বা শাস্ত কীছ নেই। এই ক্ষণস্থায়ী জগতের মধ্যে দুঃখ মানুষের জীবনের অস্তিত্বে সহজাত। গভীর অনুশোচনা ও নিজ ইচ্ছে পূরণের মাঝামাঝি পথ অনুসরণের মাধ্যমে মানুষ জাগতিক দুঃখ কষ্টের উর্ধ্বে উঠতে পারে। বৌদ্ধ ধর্মের আদিতে ভগবানের অস্তিত্ব আছে কি নেই তা অপ্রাসঙ্গিক ছিল।

বৌদ্ধধর্মে, পুরানো ঐতিহ্যের অনুগামী যারা পুরাতন পথ অনুসরণ করতো ও শিক্ষাগুরুদের শুদ্ধ করতো, তারা নিজেদের কেমনভাবে বর্ণনা করতো :

1. ধেরাবাদী
2. মহাযান
3. তারাবাদী
4. তান্ত্রিক

Options :

485584146109. 1
485584146110. 2
485584146111. 3
485584146112. 4

Question Number : 144 Question Id : 48558436529 Question Type : MCQ Option Shuffling : No Is Question Mandatory : No Calculator : None Response Time : N.A Think Time : N.A Minimum Instruction Time : 0

Correct Marks : 5 Wrong Marks : 1

Question Key Details :

| Key | Value |
|---------------|-------|
| Comprehension | Comp1 |

Read the passage and answer the questions :

According to Buddhist philosophy, the world is transient (anicca) and constantly changing; it is also soulless (anatta) as there is nothing permanent or eternal in it. Within this transient world, sorrow (dukkha) is intrinsic to human existence. It is by following the path of moderation between severe penance and self indulgence that human beings can rise above these worldly troubles. In the earliest forms of Buddhism whether or not god existed was irrelevant.

Where did Gautama Buddha attain 'nibbana'?

1. Lumbini
2. Rajgriha
3. Sarnath
4. Kusinagara

Options :

485584146113. 1
485584146114. 2
485584146115. 3
485584146116. 4

Question Number : 144 Question Id : 48558436529 Question Type : MCQ Option Shuffling : No Is Question Mandatory : No Calculator : None Response Time : N.A Think Time : N.A Minimum Instruction Time : 0

Correct Marks : 5 Wrong Marks : 1

Question Key Details :

| Key | Value |
|---------------|-------|
| Comprehension | Comp1 |

বৌদ্ধ দর্শন মতে, জগৎ অস্থায়ী এবং অবিরত পরিবর্তনশীল. মহত্বহীনও বটে (অনন্ত) কোন কিছুই স্থায়ী নয় বা শাস্ত্ব কিছু নেই। এই ক্ষণস্থায়ী জগতের মধ্যে দুঃখ মানুষের জীবনের অস্তিত্বে সহজাত। গভীর অনুশোচনা ও নিজ ইচ্ছে পূরণের মাঝামাঝি পথ অনুসরণের মাধ্যমে মানুষ জাগতিক দুঃখ কষ্টের উর্ধ্বে উঠতে পারে। বৌদ্ধ ধর্মের আদিতে ভগবানের অস্তিত্ব আছে কি নেই তা অপ্রাসঙ্গিক ছিল।

গৌতম বুদ্ধ কোথায় নির্বাণ লাভ করেন ?

1. লুম্বিনি
2. রাজগৃহ
3. সারনাথ
4. কুশিনগর

Options :

485584146113. 1
485584146114. 2
485584146115. 3
485584146116. 4

Question Number : 145 Question Id : 48558436530 Question Type : MCQ Option Shuffling : No Is Question Mandatory : No Calculator : None Response Time : N.A Think Time : N.A Minimum Instruction Time : 0

Correct Marks : 5 Wrong Marks : 1

Question Key Details :

| Key | Value |
|---------------|-------|
| Comprehension | Comp1 |

Read the passage and answer the questions :

According to Buddhist philosophy, the world is transient (anicca) and constantly changing; it is also soulless (anatta) as there is nothing permanent or eternal in it. Within this transient world, sorrow (dukkha) is intrinsic to human existence. It is by following the path of moderation between severe penance and self indulgence that human beings can rise above these worldly troubles. In the earliest forms of Buddhism whether or not god existed was irrelevant.

Which of the following statements are **True** about the teachings of Buddha?

- A. The Buddha regarded the social world as of divine origin.
- B. The Buddha advised kings and gahapatis to be humane and ethical.
- C. The Buddha believed that collective effort was required to transform social relations.
- D. The Buddha emphasised individual agency and righteous action to escape from the cycle of birth.
- E. The Buddha asserted that the extinguishing of ego and desire would end the cycle of suffering.

Choose the **correct** answer from the options given below:

- 1. C, D, E only
- 2. B, C, D only
- 3. A, B, D only
- 4. B, D, E only

Options :

- 485584146117. 1
- 485584146118. 2
- 485584146119. 3
- 485584146120. 4

Question Number : 145 Question Id : 48558436530 Question Type : MCQ Option Shuffling : No Is Question Mandatory : No Calculator : None Response Time : N.A Think Time : N.A Minimum Instruction Time : 0

Correct Marks : 5 Wrong Marks : 1

Question Key Details :

| Key | Value |
|---------------|-------|
| Comprehension | Comp1 |

বৌদ্ধ দর্শন মতে, জগৎ অস্থায়ী এবং অবিরত পরিবর্তনশীল। মহত্বহীনও বটে (অনন্ত) কোন কিছুই স্থায়ী নয় বা শাস্ত্বত কিছু নেই। এই ক্ষণস্থায়ী জগতের মধ্যে দুঃখ মানুষের জীবনের অস্তিত্বে সহজাত। গভীর অনুশোচনা ও নিজ ইচ্ছে পূরণের মাঝামাঝি পথ অনুসরণের মাধ্যমে মানুষ জাগতিক দুঃখ কষ্টের উর্ধ্বে উঠতে পারে। বৌদ্ধ ধর্মের আদিতে ভগবানের অস্তিত্ব আছে কি নেই তা অপ্রাসঙ্গিক ছিল।

বুদ্ধের শিক্ষায় নিচের বিবৃতিগুলির মধ্যে কোনটি সত্য ?

- A. বুদ্ধের মতে সামাজিক পৃথিবীর উদ্ভব ঐশ্বরিক
- B. বুদ্ধ রাজা ও গৃহপতিদের মানবিক ও নৈতিক হবার পরামর্শ দিয়েছিলেন
- C. বুদ্ধ বিশ্বাস করতেন যে সামাজিক সম্পর্ক রূপান্তরের জন্য সমষ্টিগত উদ্যোগ প্রয়োজন
- D. বুদ্ধ পুনর্জন্ম চক্র থেকে পরিত্রান পাবার জন্য ব্যক্তি প্রচেষ্টা ও ন্যায়সম্মত কর্মের উপর জোর দেন
- E. বুদ্ধ দুঃখ-যন্ত্রণার পুনরাবর্তন থেকে নিবৃত্তির জন্য অহমিকা ও আকাঙ্ক্ষার অবসানের কথা স্পষ্টভাবে ঘোষণা করেন

নিচে প্রদত্ত বিকল্পগুলি থেকে সঠিক উত্তরটি নির্বাচন কর:

- 1. C, D, E একমাত্র
- 2. B, C, D একমাত্র
- 3. A, B, D একমাত্র
- 4. B, D, E একমাত্র

Options :

- 485584146117. 1
- 485584146118. 2
- 485584146119. 3
- 485584146120. 4

Sub-Section Number :

3

Sub-Section Id :

4855842698

Question Shuffling Allowed :

No

Is Section Default? :

null

Question Number : 146 Question Id : 48558436531 Question Type : MCQ Option Shuffling : No Is Question Mandatory : No Calculator : None Response Time : N.A Think Time : N.A Minimum Instruction Time : 0

Correct Marks : 5 Wrong Marks : 1

Question Key Details :

| Key | Value |
|---------------|-------|
| Comprehension | Comp2 |

Read the passage and answer the questions :

Section I - Regarding Zemindars. It is evident that the British Government in making zemindary settlement have imposed exorbitant *Jumas* (revenue demand) and have disgraced and ruined several Zemindars by putting up their estates for public auction for arrears of rent, in so much, in the institution of a suit by a common Ryot, a maid servant or a slave, the respectable Zemindars are summoned into court, arrested, put in goal and disgraced. In litigation regarding Zemindaries, the immense value of stamps, and other unnecessary expenses of the civil courts,... are all calculated to impoverish the litigants. Besides this, the coffers of the Zemindars are annually taxed with the subscription for schools, hospitals, roads, etc. Such extortions will have no manner of existence in the Badshahi Government; but on the contrary the *Jumas* will be light, the dignity and honour of the Zemindars safe, and every Zemindar will have absolute rule in his own Zemindary...

This excerpt has been taken from:

1. Bijnaur Proclamation of 1857
2. Kanpur Proclamation of 1857
3. Azamgarh Proclamation of 1857
4. Lucknow Proclamation of 1857

Options :

485584146121. 1
485584146122. 2
485584146123. 3
485584146124. 4

Question Number : 146 Question Id : 48558436531 Question Type : MCQ Option Shuffling : No Is Question Mandatory : No Calculator : None Response Time : N.A Think Time : N.A Minimum Instruction Time : 0

Correct Marks : 5 Wrong Marks : 1

Question Key Details :

| Key | Value |
|---------------|-------|
| Comprehension | Comp2 |

অনুচ্ছেদটি পড়ো এবং প্রশ্নগুলির উত্তর দাও:

বিভাগ-I-জমিদার সম্পর্কিত। ইহা পরিষ্কার যে, ব্রিটিশ সরকার মাত্রাতিরিক্ত 'জুমা' (রাজস্ব চাহিদা) আরোপ করে জমিদারী ব্যবস্থা তৈরি করেছিলেন। খাজনা অনাদায়ের জন্য বহু জমিদারের জমি-জায়গা নিলামের জন্য নিয়ে নেওয়া হয়। এতে জমিদাররা তাদের ভূ-সম্পত্তি হারিয়ে, দুর্ভাগ্যের শিকার হয়, এবং নিঃস্ব হয়ে পড়ে। সাধারণ কৃষক, চাকর, দাস জমিদারের কাছ থেকে তাদের পারিশ্রমিক না পেয়ে সম্মানীয় জমিদারের বিরুদ্ধে মামলা করে। বহু জমিদার আদালতে এর ফলে হেনস্থা হয়, অনেকে গ্রেপ্তার হন ও চরম দুর্দশার মধ্যে পতিত হন। জমিদারী সংক্রান্ত মামলা-মোকদ্দমা, প্রচুর স্টিম্প কর, সিভিল কোর্টের আরও অপ্রয়োজনীয় খরচ-এসব কিছুই মামলাকারীদের অবস্থা সঙ্গীন করে তোলে। এছাড়া জমিদারদের সঞ্চয়, সম্পত্তির উপর বার্ষিক কর আরোপ সঙ্গে স্কুল, হাসপাতাল, রাস্তাঘাটের জন্য অর্থপ্রদান-ব্রিটিশ সরকারের গড়ে তোলা জমিদারী ব্যবস্থায় জমিদাররা সর্বস্বান্ত হয়ে অথচ এধরনের মাত্রাতিরিক্ত খরচ বা কর প্রদান বাদশাহী সরকারে থাকবে না। বরং করের ভার হালকা, জমিদারদের মর্যাদা ও সম্মান সুরক্ষিত থাকবে। জমিদারদের নিজ জমিদারিতে তাদেরই শাসন সুপ্রতিষ্ঠিত থাকবে।

এই উদ্ভূতি অংশটি নেওয়া হয়েছে :

1. 1857 র বিজ্ঞানের ঘোষণাপত্র
2. 1857 র কানপুর ঘোষণা পত্র
3. 1857 র আজমগড় ঘোষণাপত্র
4. 1857 র লক্ষ্মী ঘোষণাপত্র

Options :

485584146121. 1
485584146122. 2

485584146123. 3

485584146124. 4

Question Number : 147 Question Id : 48558436532 Question Type : MCQ Option Shuffling : No Is Question Mandatory : No Calculator : None Response Time : N.A Think Time : N.A Minimum Instruction Time : 0

Correct Marks : 5 Wrong Marks : 1

Question Key Details :

| Key | Value |
|---------------|-------|
| Comprehension | Comp2 |

Read the passage and answer the questions :

Section I - Regarding Zemindars. It is evident that the British Government in making zemindary settlement have imposed exorbitant *Jumas* (revenue demand) and have disgraced and ruined several Zemindars by putting up their estates for public auction for arrears of rent, in so much, in the institution of a suit by a common Ryot, a maid servant or a slave, the respectable Zemindars are summoned into court, arrested, put in goal and disgraced. In litigation regarding Zemindaries, the immense value of stamps, and other unnecessary expenses of the civil courts,... are all calculated to impoverish the litigants. Besides this, the coffers of the Zemindars are annually taxed with the subscription for schools, hospitals, roads, etc. Such extortions will have no manner of existence in the Badshahi Government; but on the contrary the *Jumas* will be light, the dignity and honour of the Zemindars safe, and every Zemindar will have absolute rule in his own Zemindary...

"Section I" of the Proclamation addresses to which class?

1. Service gentry class
2. Land holding class
3. Merchant-commercial class
4. Artisans and peasants

Options :

485584146125. 1

485584146126. 2

485584146127. 3

485584146128. 4

Question Number : 147 Question Id : 48558436532 Question Type : MCQ Option Shuffling : No Is Question Mandatory : No Calculator : None Response Time : N.A Think Time : N.A Minimum Instruction Time : 0

Correct Marks : 5 Wrong Marks : 1

Question Key Details :

| Key | Value |
|---------------|-------|
| Comprehension | Comp2 |

অনুচ্ছেদটি পড়ে এবং প্রশ্নগুলির উত্তর দাও:

বিভাগ-I-জমিদার সম্পর্কিত। ইহা পরিষ্কার যে, ব্রিটিশ সরকার মাত্রাতিরিক্ত 'জুমা' (রাজস্ব চাহিদা) আরোপ করে জমিদারী ব্যবস্থা তৈরি করেছিলেন। খাজনা অনাদায়ের জন্য বহু জমিদারের জমি-জায়গা নিলামের জন্য নিয়ে নেওয়া হয়। এতে জমিদাররা তাদের ভূ-সম্পত্তি হারিয়ে, দুর্ভাগ্যের শিকার হয়, এবং নিঃস্ব হয়ে পড়ে। সাধারণ কৃষক, চাকর, দাস জমিদারের কাছ থেকে তাদের পারিশ্রমিক না পেয়ে সম্মানীয় জমিদারের বিরুদ্ধে মামলা করে। বহু জমিদার আদালতে এর ফলে হেনস্থা হয়, অনেকে গ্রেপ্তার হন ও চরম দুর্দশার মধ্যে পতিত হন। জমিদারী সংক্রান্ত মামলা-মোকদ্দমা, প্রচুর স্ট্যাম্প কর, সিভিল কোর্টের আরও অপ্রয়োজনীয় খরচ-এসব কিছুই মামলাকারীদের অবস্থা সঙ্গীন করে তোলে। এছাড়া জমিদারদের সঞ্চয়, সম্পত্তির উপর বার্ষিক কর আরোপ সঙ্গে স্কুল, হাসপাতাল, রাস্তাঘাটের জন্য অর্থপ্রদান-ব্রিটিশ সরকারের গড়ে তোলা জমিদারী ব্যবস্থায় জমিদাররা সর্বস্বান্ত হয়ে। অথচ এধরনের মাত্রাতিরিক্ত খরচ বা কর প্রদান বাদশাহী সরকারে থাকবে না। বরং করের ভার হালকা, জমিদারদের মর্যাদা ও সম্মান সুরক্ষিত থাকবে। জমিদারদের নিজ জমিদারিতে তাদেরই শাসন সুপ্রতিষ্ঠিত থাকবে।

"বিভাগ I" র ঘোষণা কোন শ্রেণীর উদ্দেশ্যে?

1. চাকরীরত ভদ্রলোক শ্রেণী
2. জমিদার শ্রেণী
3. বণিক-অর্থশালী শ্রেণী
4. কারিগর এবং কৃষক শ্রেণী

Options :

485584146125. 1
485584146126. 2
485584146127. 3
485584146128. 4

Question Number : 148 Question Id : 48558436533 Question Type : MCQ Option Shuffling : No Is Question Mandatory : No Calculator : None Response Time : N.A Think Time : N.A Minimum Instruction Time : 0

Correct Marks : 5 Wrong Marks : 1

Question Key Details :

| Key | Value |
|---------------|-------|
| Comprehension | Comp2 |

Read the passage and answer the questions :

Section I - Regarding Zemindars. It is evident that the British Government in making zemindary settlement have imposed exorbitant *Jumas* (revenue demand) and have disgraced and ruined several Zemindars by putting up their estates for public auction for arrears of rent, in so much, in the institution of a suit by a common Ryot, a maid servant or a slave, the respectable Zemindars are summoned into court, arrested, put in goal and disgraced. In litigation regarding Zemindaries, the immense value of stamps, and other unnecessary expenses of the civil courts,... are all calculated to impoverish the litigants. Besides this, the coffers of the Zemindars are annually taxed with the subscription for schools, hospitals, roads, etc. Such extortions will have no manner of existence in the Badshahi Government; but on the contrary the *Jumas* will be light, the dignity and honour of the Zemindars safe, and every Zemindar will have absolute rule in his own Zemindary...

Which of the difficulties and miseries of the zamindars have NOT been addressed in the Proclamation?

1. Absolute maximising of land tax.
2. Loss of social prestige.
3. Financial burden of the litigation.
4. Backwardness in communication and transportation.

Options :

485584146129. 1
485584146130. 2
485584146131. 3
485584146132. 4

Question Number : 148 Question Id : 48558436533 Question Type : MCQ Option Shuffling : No Is Question Mandatory : No Calculator : None Response Time : N.A Think Time : N.A Minimum Instruction Time : 0

Correct Marks : 5 Wrong Marks : 1

Question Key Details :

| Key | Value |
|---------------|-------|
| Comprehension | Comp2 |

অনুচ্ছেদটি পড়ে এবং প্রশ্নগুলির উত্তর দাও:

বিভাগ-I-জমিদার সম্পর্কিত। ইহা পরিষ্কার যে, ব্রিটিশ সরকার মাত্রাতিরিক্ত 'জুমা' (রাজস্ব চাহিদা) আরোপ করে জমিদারী ব্যবস্থা তৈরি করেছিলেন। খাজনা আনাদায়ের জন্য বহু জমিদারের জমি-জায়গা নিলামের জন্য নিয়ে নেওয়া হয়। এতে জমিদাররা তাদের ভূ-সম্পত্তি হারিয়ে, দুর্ভাগ্যের শিকার হয়, এবং নিঃস্ব হয়ে পড়ে। সাধারণ কৃষক, চাকর, দাস জমিদারের কাছ থেকে তাদের পারিশ্রমিক না পেয়ে সম্মানীয় জমিদারের বিরুদ্ধে মামলা করে। বহু জমিদার আদালতে এর ফলে হেনস্থা হয়, অনেকে গ্রেপ্তার হন ও চরম দুর্দশার মধ্যে পতিত হন। জমিদারী সংক্রান্ত মামলা-মোকদ্দমা, প্রচুর স্ট্যাম্প কর, সিভিল কোর্টের আরও অপ্রয়োজনীয় খরচ-এসব কিছুই মামলাকারীদের অবস্থা সঙ্গীন করে তোলে। এছাড়া জমিদারদের সঞ্চয়, সম্পত্তির উপর বার্ষিক কর আরোপ সঙ্গে স্কুল, হাসপাতাল, রাস্তাঘাটের জন্য অর্থপ্রদান-ব্রিটিশ সরকারের গড়ে তোলা জমিদারী ব্যবস্থায় জমিদাররা সর্বস্বান্ত হয়ে। অথচ এধরনের মাত্রাতিরিক্ত খরচ বা কর প্রদান বাদশাহী সরকারে থাকবে না। বরং করের ভার হালকা, জমিদারদের মর্যাদা ও সম্মান সুরক্ষিত থাকবে। জমিদারদের নিজ জমিদারিতে তাদেরই শাসন সুপ্রতিষ্ঠিত থাকবে।

ঘোষণাপত্রে জমিদারদের কিধরনের অসুবিধা ও দুর্ভোগের কথা উল্লেখিত হয়নি ?

1. ভূমিকরের চড়া হার
2. সামাজিক মর্যাদার হানি
3. মামলার জন্য খরচের বোঝা
4. যাতায়াত ও পরিবহনের পশ্চাদপদতা

Options :

485584146129. 1
485584146130. 2
485584146131. 3
485584146132. 4

Question Number : 149 Question Id : 48558436534 Question Type : MCQ Option Shuffling : No Is Question Mandatory : No Calculator : None Response Time : N.A Think Time : N.A Minimum Instruction Time : 0

Correct Marks : 5 Wrong Marks : 1

Question Key Details :

| Key | Value |
|---------------|-------|
| Comprehension | Comp2 |

Read the passage and answer the questions :

Section I - Regarding Zemindars. It is evident that the British Government in making zemindary settlement have imposed exorbitant *Jumas* (revenue demand) and have disgraced and ruined several Zemindars by putting up their estates for public auction for arrears of rent, in so much, in the institution of a suit by a common Ryot, a maid servant or a slave, the respectable Zemindars are summoned into court, arrested, put in goal and disgraced. In litigation regarding Zemindaries, the immense value of stamps, and other unnecessary expenses of the civil courts,... are all calculated to impoverish the litigants. Besides this, the coffers of the Zemindars are annually taxed with the subscription for schools, hospitals, roads, etc. Such extortions will have no manner of existence in the Badshahi Government; but on the contrary the *Jumas* will be light, the dignity and honour of the Zemindars safe, and every Zemindar will have absolute rule in his own Zemindary...

The alternative rule of 'Badshahi Government' proposed by the rebels in this proclamation refers to

1. The rule of the king of England.
2. The royal nature of the company state.
3. The rule of India's traditional aristocratic class, such as of Bahadur Shah Zafar.
4. The rule established by the rebels based on the ordinary people of India.

Options :

485584146133. 1
485584146134. 2
485584146135. 3
485584146136. 4

Question Number : 149 Question Id : 48558436534 Question Type : MCQ Option Shuffling : No Is Question Mandatory : No Calculator : None Response Time : N.A Think Time : N.A Minimum Instruction Time : 0

Correct Marks : 5 Wrong Marks : 1

Question Key Details :

| Key | Value |
|---------------|-------|
| Comprehension | Comp2 |

অনুচ্ছেদটি পড়ো এবং প্রশ্নগুলির উত্তর দাওঃ

বিভাগ-I-জমিদার সম্পর্কিত। ইহা পরিষ্কার যে, ব্রিটিশ সরকার মাত্রাতিরিক্ত 'জুমা' (রাজস্ব চাহিদা) আরোপ করে জমিদারী ব্যবস্থা তৈরি করেছিলেন। খাজনা অনাদায়ের জন্য বহু জমিদারের জমি-জায়গা নিলামের জন্য নিয়ে নেওয়া হয়। এতে জমিদাররা তাদের ভূ-সম্পত্তি হারিয়ে, দুর্ভাগ্যের শিকার হয়, এবং নিঃস্ব হয়ে পড়ে। সাধারণ কৃষক, চাকর, দাস জমিদারের কাছ থেকে তাদের পারিশ্রমিক না পেয়ে সম্মানীয় জমিদারের বিরুদ্ধে মামলা করে। বহু জমিদার আদালতে এর ফলে হেনস্থা হয়, অনেকে গ্রেপ্তার হন ও চরম দুর্দশার মধ্যে পতিত হন। জমিদারী সংক্রান্ত মামলা-মোকদ্দমা, প্রচুর স্ট্যাম্প কর, সিভিল কোর্টের আরও অপ্রয়োজনীয় খরচ-এসব কিছুই মামলাকারীদের অবস্থা সঙ্গীন করে তোলে। এছাড়া জমিদারদের সঞ্চয়, সম্পত্তির উপর বার্ষিক কর আরোপ সঙ্গে স্কুল, হাসপাতাল, রাস্তাঘাটের জন্য অর্থপ্রদান-ব্রিটিশ সরকারের গড়ে তোলা জমিদারী ব্যবস্থায় জমিদাররা সর্বস্বান্ত হয়ে অথচ এধরনের মাত্রাতিরিক্ত খরচ বা কর প্রদান বাদশাহী সরকারে থাকবে না। বরং করের ভার হালকা, জমিদারদের মর্যাদা ও সম্মান সুরক্ষিত থাকবে। জমিদারদের নিজ জমিদারিতে তাদেরই শাসন সুপ্রতিষ্ঠিত থাকবে।

বিদ্রোহীদের ঘোষণাপত্রে 'বাদশাহী সরকার' এর বিকল্প শাসনে বলা হয়েছিল :

1. ইংল্যান্ডের রাজার শাসন
2. কোম্পানির সরকারের রাজকীয় কায়েদা
3. ভারতের চিরাচরিত অভিজাত শ্রেণীর শাসন, যেমন বাহাদুর শাহ জাফর
4. বিদ্রোহীদের দ্বারা প্রতিষ্ঠিত শাসন, যার ভিত্তি ভারতের সাধারণ জনগন

Options :

485584146133. 1

485584146134. 2

485584146135. 3

485584146136. 4

Question Number : 150 Question Id : 48558436535 Question Type : MCQ Option Shuffling : No Is Question Mandatory : No Calculator : None Response Time : N.A Think Time : N.A Minimum Instruction Time : 0

Correct Marks : 5 Wrong Marks : 1

Question Key Details :

| Key | Value |
|---------------|-------|
| Comprehension | Comp2 |

Read the passage and answer the questions :

Section I - Regarding Zemindars. It is evident that the British Government in making zemindary settlement have imposed exorbitant *Jumas* (revenue demand) and have disgraced and ruined several Zemindars by putting up their estates for public auction for arrears of rent, in so much, in the institution of a suit by a common Ryot, a maid servant or a slave, the respectable Zemindars are summoned into court, arrested, put in goal and disgraced. In litigation regarding Zemindaries, the immense value of stamps, and other unnecessary expenses of the civil courts,... are all calculated to impoverish the litigants. Besides this, the coffers of the Zemindars are annually taxed with the subscription for schools, hospitals, roads, etc. Such extortions will have no manner of existence in the Badshahi Government; but on the contrary the *Jumas* will be light, the dignity and honour of the Zemindars safe, and every Zemindar will have absolute rule in his own Zemindary...

Loss of zamindari estates and public auction of the same, as mentioned in the Proclamation, was caused by_____.

1. War of succession with the British.
2. Military expedition of the company.
3. New land reserve settlements of the company.
4. Lack of competence and co-ordination on part of the zamindars.

Options :

- 485584146137. 1
- 485584146138. 2
- 485584146139. 3
- 485584146140. 4

Question Number : 150 Question Id : 48558436535 Question Type : MCQ Option Shuffling : No Is Question Mandatory : No Calculator : None Response Time : N.A Think Time : N.A Minimum Instruction Time : 0

Correct Marks : 5 Wrong Marks : 1

Question Key Details :

| Key | Value |
|---------------|-------|
| Comprehension | Comp2 |

অনুচ্ছেদটি পড়ো এবং প্রশ্নগুলির উত্তর দাও:

বিভাগ-I-জমিদার সম্পর্কিত। ইহা পরিষ্কার যে, ব্রিটিশ সরকার মাত্রাতিরিক্ত 'জুমা' (রাজস্ব চাহিদা) আরোপ করে জমিদারী ব্যবস্থা তৈরি করেছিলেন। খাজনা অনাদায়ের জন্য বহু জমিদারের জমি-জায়গা নিলামের জন্য নিয়ে নেওয়া হয়। এতে জমিদাররা তাদের ভূ-সম্পত্তি হারিয়ে, দুর্ভাগ্যের শিকার হয়, এবং নিঃস্ব হয়ে পড়ে। সাধারণ কৃষক, চাকর, দাস জমিদারের কাছ থেকে তাদের পারিশ্রমিক না পেয়ে সম্মানীয় জমিদারের বিরুদ্ধে মামলা করে। বহু জমিদার আদালতে এর ফলে হেনস্থা হয়, অনেকে গ্রেপ্তার হন ও চরম দুর্দশার মধ্যে পতিত হন। জমিদারী সংক্রান্ত মামলা-মোকদ্দমা, প্রচুর স্ট্যাম্প কর, সিভিল কোর্টের আরও অপ্রয়োজনীয় খরচ-এসব কিছুই মামলাকারীদের অবস্থা সঙ্গীন করে তোলে। এছাড়া জমিদারদের সঞ্চয়, সম্পত্তির উপর বার্ষিক কর আরোপ সঙ্গে স্কুল, হাসপাতাল, রাস্তাঘাটের জন্য অর্থপ্রদান-ব্রিটিশ সরকারের গড়ে তোলা জমিদারী ব্যবস্থায় জমিদাররা সর্বস্বান্ত হয়ে। অথচ এধরনের মাত্রাতিরিক্ত খরচ বা কর প্রদান বাদশাহী সরকারে থাকবে না। বরং করের ভার হালকা, জমিদারদের মর্যাদা ও সম্মান সুরক্ষিত থাকবে। জমিদারদের নিজ জমিদারিতে তাদেরই শাসন সুপ্রতিষ্ঠিত থাকবে।

ঘোষণাপত্রে উল্লেখিত জমিদারদের সম্পত্তির ক্ষয়ক্ষতি এবং নিলামের ফলে জমিদারীর সর্বনাশের কারণঃ

1. ব্রিটিশের সঙ্গে উত্তরাধিকার যুদ্ধ
2. কোম্পানির সামরিক অভিযান
3. কোম্পানির নতুন জমি বন্দোবস্ত
4. জমিদারদের অদক্ষতা ও সমন্বয়হীনতা

Options :

485584146137. 1

485584146138. 2

485584146139. 3

485584146140. 4

Home Science

| | |
|-------------------------------|-----------|
| Group Number : | 5 |
| Group Id : | 485584825 |
| Group Maximum Duration : | 45 |
| Group Minimum Duration : | 45 |
| Show Attended Group? : | No |
| Edit Attended Group? : | No |
| Break time : | 0 |
| Group Marks : | 200 |
| Is this Group for Examiner? : | No |
| Examiner permission : | Cant View |
| Show Progress Bar? : | No |

Home Science

Section Id : 485584949

Section Number : 1

| | |
|--|------------|
| Section type : | Online |
| Mandatory or Optional : | Mandatory |
| Number of Questions : | 50 |
| Number of Questions to be attempted : | 40 |
| Section Marks : | 200 |
| Enable Mark as Answered Mark for Review and Clear Response : | Yes |
| Maximum Instruction Time : | 0 |
| Sub-Section Number : | 1 |
| Sub-Section Id : | 4855842699 |
| Question Shuffling Allowed : | Yes |
| Is Section Default? : | null |

Question Number : 151 Question Id : 48558436536 Question Type : MCQ Option Shuffling : No Is Question Mandatory : No Calculator : None Response Time : N.A Think Time : N.A Minimum Instruction Time : 0

Correct Marks : 5 Wrong Marks : 1

Question Key Details :

| Key | Value |
|---------------|-------|
| Comprehension | MCQ |

The Persons with Disabilities Act was passed in which year?

1. 1995
2. 1996
3. 2000
4. 1998

Options :

485584146141. 1
485584146142. 2
485584146143. 3
485584146144. 4

Question Number : 151 Question Id : 48558436536 Question Type : MCQ Option Shuffling : No Is Question Mandatory : No Calculator : None Response Time : N.A Think Time : N.A Minimum Instruction Time : 0

Correct Marks : 5 Wrong Marks : 1

Question Key Details :

| Key | Value |
|---------------|-------|
| Comprehension | MCQ |

কোন সালে অক্ষম / প্রতিবন্ধী ব্যক্তির আইন পাশ হয়েছিল

1. ১৯৯৫
2. ১৯৯৬
3. ২০০০
4. ১৯৯৮

Options :

485584146141. 1
485584146142. 2
485584146143. 3
485584146144. 4

Question Number : 152 Question Id : 48558436537 Question Type : MCQ Option Shuffling : No Is Question Mandatory : No Calculator : None Response Time : N.A Think Time : N.A Minimum Instruction Time : 0

Correct Marks : 5 Wrong Marks : 1

Question Key Details :

| Key | Value |
|---------------|-------|
| Comprehension | MCQ |

The causes of disability in children can be grouped into three categories which are:

- A. Factors that impinge on the child during development
- B. Factors due to school education
- C. Factors that affect before birth, both genetic and non-genetic
- D. Factors that affect the child at birth or soon after birth

Choose the correct answer from the options given below:

- 1. A, C and D only
- 2. A, B and C only
- 3. B, C and D only
- 4. A, B and D only

Options :

485584146145. 1
485584146146. 2
485584146147. 3
485584146148. 4

Question Number : 152 Question Id : 48558436537 Question Type : MCQ Option Shuffling : No Is Question Mandatory : No Calculator : None Response Time : N.A Think Time : N.A Minimum Instruction Time : 0

Correct Marks : 5 Wrong Marks : 1

Question Key Details :

| Key | Value |
|---------------|-------|
| Comprehension | MCQ |

শিশুর অক্ষমতা কারণ এর উপর ভিত্তি করে তিনপ্রকার দলে বিভক্ত করা হয়েছে সেগুলি হল

- A. বিকাশ সংক্রান্ত বিষয়
- B. বিদ্যালয়ের শিক্ষাগ্রহণ সংক্রান্ত বিষয়
- C. জন্ম পূর্ববর্তী, জীবনগত এবং অজীবনগত দুই বিষয় সংক্রান্ত
- D. ভূমিষ্ঠ এবং তার পরবর্তী বিষয় সংক্রান্ত

নিম্নপ্রদত্ত বিকল্পগুলির মধ্যে সঠিক উত্তর বেছে নিয়ে লেখ:

- 1. কেবলমাত্র A, C এবং D
- 2. কেবলমাত্র A, B এবং C
- 3. কেবলমাত্র B, C এবং D
- 4. কেবলমাত্র A, B এবং D

Options :

- 485584146145. 1
- 485584146146. 2
- 485584146147. 3
- 485584146148. 4

Question Number : 153 Question Id : 48558436538 Question Type : MCQ Option Shuffling : No Is Question Mandatory : No Calculator : None Response Time : N.A Think Time : N.A Minimum Instruction Time : 0 Correct Marks : 5 Wrong Marks : 1

Question Key Details :

| Key | Value |
|---------------|-------|
| Comprehension | MCQ |

_____ is the basic unit of society which looks after its members.

- 1. School
- 2. Family
- 3. Neighbour
- 4. Friends

Options :

- 485584146149. 1
- 485584146150. 2
- 485584146151. 3
- 485584146152. 4

Question Number : 153 Question Id : 48558436538 Question Type : MCQ Option Shuffling : No Is Question Mandatory : No Calculator : None Response Time : N.A Think Time : N.A Minimum Instruction Time : 0 Correct Marks : 5 Wrong Marks : 1

Question Key Details :

| Key | Value |
|---------------|-------|
| Comprehension | MCQ |

এর মধ্যে কোনটি সমাজের মৌলিক একক যা, তার সদস্যের উপর নির্ভরশীল

1. বিদ্যালয়
2. পরিবার
3. প্রতিবেশী
4. বন্ধুবান্ধব

Options :

485584146149. 1
485584146150. 2
485584146151. 3
485584146152. 4

Question Number : 154 Question Id : 48558436539 Question Type : MCQ Option Shuffling : No Is Question Mandatory : No Calculator : None Response Time : N.A Think Time : N.A Minimum Instruction Time : 0

Correct Marks : 5 Wrong Marks : 1

Question Key Details :

| Key | Value |
|---------------|-------|
| Comprehension | MCQ |

In India, a senior citizen is a person belonging to which of the following age group?

1. 65 years and above
2. 60 years and above
3. 70 years and above
4. 80 years and above

Options :

485584146153. 1
485584146154. 2
485584146155. 3
485584146156. 4

Question Number : 154 Question Id : 48558436539 Question Type : MCQ Option Shuffling : No Is Question Mandatory : No Calculator : None Response Time : N.A Think Time : N.A Minimum Instruction Time : 0

Correct Marks : 5 Wrong Marks : 1

Question Key Details :

| Key | Value |
|---------------|-------|
| Comprehension | MCQ |

ভারতে নিম্নপ্রদত্ত কোন বয়সসীমাকে বয়জ্জেষ্ট নাগরিক হিসাবে গণ্য করা হয়

1. ৬৫ বছর এবং উর্ধ্ব
2. ৬০ বছর এবং উর্ধ্ব
3. ৭০ বছর এবং উর্ধ্ব
4. ৮০ বছর এবং উর্ধ্ব

Options :

485584146153. 1
485584146154. 2
485584146155. 3
485584146156. 4

Question Number : 155 Question Id : 48558436540 Question Type : MCQ Option Shuffling : No Is Question Mandatory : No Calculator : None Response Time : N.A Think Time : N.A Minimum Instruction Time : 0

Correct Marks : 5 Wrong Marks : 1

Question Key Details :

| Key | Value |
|---------------|-------|
| Comprehension | MCQ |

In which year, Ministry of Youth Affairs and Sports adopted the National Youth Policy?

1. 2005
2. 2003
3. 2004
4. 2010

Options :

485584146157. 1
485584146158. 2
485584146159. 3
485584146160. 4

Question Number : 155 Question Id : 48558436540 Question Type : MCQ Option Shuffling : No Is Question Mandatory : No Calculator : None Response Time : N.A Think Time : N.A Minimum Instruction Time : 0

Correct Marks : 5 Wrong Marks : 1

Question Key Details :

| Key | Value |
|---------------|-------|
| Comprehension | MCQ |

কোন সালে যুব অ্যাফেয়ার ও স্পোর্টস মন্ত্রণালয় ন্যাশনাল যুব পলিসি গ্রহণ করেছে

1. ২০০৫
2. ২০০৩
3. ২০০৪
4. ২০১০

Options :

485584146157. 1
485584146158. 2
485584146159. 3
485584146160. 4

Question Number : 156 Question Id : 48558436541 Question Type : MCQ Option Shuffling : No Is Question Mandatory : No Calculator : None Response Time : N.A Think Time : N.A Minimum Instruction Time : 0

Correct Marks : 5 Wrong Marks : 1

Question Key Details :

| Key | Value |
|---------------|-------|
| Comprehension | MCQ |

Name the psychologist who outlined the great need that children have for a concerned, caring and knowledgeable adult.

1. Piaget
2. Freud
3. Vygotsky
4. Bruner

Options :

485584146161. 1
485584146162. 2
485584146163. 3
485584146164. 4

Question Number : 156 Question Id : 48558436541 Question Type : MCQ Option Shuffling : No Is Question Mandatory : No Calculator : None Response Time : N.A Think Time : N.A Minimum Instruction Time : 0

Correct Marks : 5 Wrong Marks : 1

Question Key Details :

| Key | Value |
|---------------|-------|
| Comprehension | MCQ |

কোন মনস্তত্ত্ববিদ শিশুর একজন জ্ঞানী ব্যক্তির প্রয়োজনীয়তা সম্পর্কে ধারণা প্রদান করেছিলেন

1. পাইয়াগেট
2. ফ্রয়ড
3. ভয়গটকি
4. ব্রুনার

Options :

485584146161. 1
485584146162. 2
485584146163. 3
485584146164. 4

Question Number : 157 Question Id : 48558436542 Question Type : MCQ Option Shuffling : No Is Question Mandatory : No Calculator : None Response Time : N.A Think Time : N.A Minimum Instruction Time : 0

Correct Marks : 5 Wrong Marks : 1

Question Key Details :

| Key | Value |
|---------------|-------|
| Comprehension | MCQ |

Identify the given standardisation mark.



1. ISI
2. FPO
3. AGMARK
4. Hallmark

Options :

485584146165. 1
485584146166. 2
485584146167. 3
485584146168. 4

Question Number : 157 Question Id : 48558436542 Question Type : MCQ Option Shuffling : No Is Question Mandatory : No Calculator : None Response Time : N.A Think Time : N.A Minimum Instruction Time : 0

Correct Marks : 5 Wrong Marks : 1

Question Key Details :

| Key | Value |
|---------------|-------|
| Comprehension | MCQ |

নিম্নপ্রদত্ত মান নির্ধারক সূচকের চিত্র চিহ্নিত কর



1. ISI
2. FPO
3. AGMARK
4. FSSAI

Options :

485584146165. 1
485584146166. 2
485584146167. 3
485584146168. 4

Question Number : 158 Question Id : 48558436543 Question Type : MCQ Option Shuffling : No Is Question Mandatory : No Calculator : None Response Time : N.A Think Time : N.A Minimum Instruction Time : 0

Correct Marks : 5 Wrong Marks : 1

Question Key Details :

| Key | Value |
|---------------|-------|
| Comprehension | MCQ |

A process through which buyer makes decisions about purchasing is known as _____.

1. Consumer behaviour
2. Consumer right
3. Consumer footfall
4. Consumer expectation

Options :

485584146169. 1

485584146170. 2
485584146171. 3
485584146172. 4

Question Number : 158 Question Id : 48558436543 Question Type : MCQ Option Shuffling : No Is Question Mandatory : No Calculator : None Response Time : N.A Think Time : N.A Minimum Instruction Time : 0

Correct Marks : 5 Wrong Marks : 1

Question Key Details :

| Key | Value |
|---------------|-------|
| Comprehension | MCQ |

যে পদ্ধতিতে উপভোক্তা দ্রব্য ক্রয় করার সিদ্ধান্ত গ্রহণ করেন তাকে বলে _____।

1. কেন্দ্রের আচরণ
2. কেন্দ্রের অধিকার
3. উপভোক্তা পদার্পণ
4. কেন্দ্রের চাহিদা

Options :

485584146169. 1
485584146170. 2
485584146171. 3
485584146172. 4

Question Number : 159 Question Id : 48558436544 Question Type : MCQ Option Shuffling : No Is Question Mandatory : No Calculator : None Response Time : N.A Think Time : N.A Minimum Instruction Time : 0

Correct Marks : 5 Wrong Marks : 1

Question Key Details :

| Key | Value |
|---------------|-------|
| Comprehension | MCQ |

Which of the following is a tool to empower and equip consumers to protect themselves from adverse market forces ?

1. Consumer education
2. Consumer problems
3. Consumer behaviour
4. Consumer responsibility

Options :

485584146173. 1
485584146174. 2
485584146175. 3
485584146176. 4

Question Number : 159 Question Id : 48558436544 Question Type : MCQ Option Shuffling : No Is Question Mandatory : No Calculator : None Response Time : N.A Think Time : N.A Minimum Instruction Time : 0

Correct Marks : 5 Wrong Marks : 1

Question Key Details :

| Key | Value |
|---------------|-------|
| Comprehension | MCQ |

কোন উপাদানটির মাধ্যমে উপভোক্তারা স্বনির্ভর এবং সুচারুভাবে বাজারের ঋণাত্মক প্রভাব থেকে সুরক্ষিত করতে পারবে।

1. ক্রেতা / উপভোক্তা প্রশিক্ষণ
2. উপভোক্তার সমস্যা
3. উপভোক্তার আচারবিধি
4. উপভোক্তার দায়িত্ববোধ

Options :

485584146173. 1
485584146174. 2
485584146175. 3
485584146176. 4

Question Number : 160 Question Id : 48558436545 Question Type : MCQ Option Shuffling : No Is Question Mandatory : No Calculator : None Response Time : N.A Think Time : N.A Minimum Instruction Time : 0

Correct Marks : 5 Wrong Marks : 1

Question Key Details :

| Key | Value |
|---------------|-------|
| Comprehension | MCQ |

What is the other name for short lived fashion?

1. Fad
2. Classic
3. Style
4. Design

Options :

485584146177. 1
485584146178. 2
485584146179. 3
485584146180. 4

Question Number : 160 Question Id : 48558436545 Question Type : MCQ Option Shuffling : No Is Question Mandatory : No Calculator : None Response Time : N.A Think Time : N.A Minimum Instruction Time : 0

Correct Marks : 5 Wrong Marks : 1

Question Key Details :

| Key | Value |
|---------------|-------|
| Comprehension | MCQ |

বহুস্থায়ী ফ্যাশনের আর এক নাম কি?

1. ফ্যাড
2. ক্লাসিক
3. স্টাইল
4. ফ্যাশন

Options :

485584146177. 1
485584146178. 2
485584146179. 3
485584146180. 4

Question Number : 161 Question Id : 48558436546 Question Type : MCQ Option Shuffling : No Is Question Mandatory : No Calculator : None Response Time : N.A Think Time : N.A Minimum Instruction Time : 0

Correct Marks : 5 Wrong Marks : 1

Question Key Details :

| Key | Value |
|---------------|-------|
| Comprehension | MCQ |

You have to purchase a dress for your sister who is tall and slim. Inclusion of which of the following will be appropriate for her?

1. Vertical lines
2. Horizontal lines
3. Dark colours
4. High waist bodice

Options :

485584146181. 1
485584146182. 2
485584146183. 3
485584146184. 4

Question Number : 161 Question Id : 48558436546 Question Type : MCQ Option Shuffling : No Is Question Mandatory : No Calculator : None Response Time : N.A Think Time : N.A Minimum Instruction Time : 0

Correct Marks : 5 Wrong Marks : 1

Question Key Details :

| Key | Value |
|---------------|-------|
| Comprehension | MCQ |

তুমি তোমার বোনের জন্য এক পোশাক পছন্দ করছে যে লম্বা ও ছিপছিপে চেহারার, এর মধ্যে কোনটি তার জন্য উপযুক্ত হবে ?

1. উল্লম্ব রেখা
2. সমান্তরাল রেখা
3. গাঢ় রঙের
4. উচ্চ কোমর বন্ধক পোশাক

Options :

485584146181. 1
485584146182. 2
485584146183. 3
485584146184. 4

Question Number : 162 Question Id : 48558436547 Question Type : MCQ Option Shuffling : No Is Question Mandatory : No Calculator : None Response Time : N.A Think Time : N.A Minimum Instruction Time : 0

Correct Marks : 5 Wrong Marks : 1

Question Key Details :

| Key | Value |
|---------------|-------|
| Comprehension | MCQ |

_____ ability requires a thorough knowledge of past future trends and current future trends.

1. Analytical
2. Forecasting
3. Communication
4. Technical

Options :

485584146185. 1
485584146186. 2
485584146187. 3
485584146188. 4

Question Number : 162 Question Id : 48558436547 Question Type : MCQ Option Shuffling : No Is Question Mandatory : No Calculator : None Response Time : N.A Think Time : N.A Minimum Instruction Time : 0

Correct Marks : 5 Wrong Marks : 1

Question Key Details :

| Key | Value |
|---------------|-------|
| Comprehension | MCQ |

ভবিষ্যতের ফ্যাশনের অর্থ হল _____ দক্ষতা

1. বিশ্লেষণমূলক
2. পূর্বাভাস
3. যোগাযোগ ব্যবস্থা
4. প্রযুক্তিগত

Options :

485584146185. 1
485584146186. 2
485584146187. 3
485584146188. 4

Question Number : 163 Question Id : 48558436548 Question Type : MCQ Option Shuffling : No Is Question Mandatory : No Calculator : None Response Time : N.A Think Time : N.A Minimum Instruction Time : 0

Correct Marks : 5 Wrong Marks : 1

Question Key Details :

| Key | Value |
|---------------|-------|
| Comprehension | MCQ |

_____ is the important phase in wash cycle. If it is not done properly, clothes may look grey, dull with harsh texture.

1. Water extraction
2. Rinsing
3. Drying
4. Pressing

Options :

485584146189. 1
485584146190. 2
485584146191. 3
485584146192. 4

Question Number : 163 Question Id : 48558436548 Question Type : MCQ Option Shuffling : No Is Question Mandatory : No Calculator : None Response Time : N.A Think Time : N.A Minimum Instruction Time : 0

Correct Marks : 5 Wrong Marks : 1

Question Key Details :

| Key | Value |
|---------------|-------|
| Comprehension | MCQ |

এটি বস্ত্র ধৌত চক্রের গুরুত্বপূর্ণ পর্যায় যদি এটি সঠিকভাবে সম্পন্ন না হয় তবে পোশাক ধূসর এবং নিস্তেজ দেখাবে

1. জল অপসারণ করা
2. জল দিয়ে বস্ত্র ধোয়া
3. শুকনো করা
4. ইস্তিরি করা

Options :

485584146189. 1
485584146190. 2
485584146191. 3
485584146192. 4

Question Number : 164 Question Id : 48558436549 Question Type : MCQ Option Shuffling : No Is Question Mandatory : No Calculator : None Response Time : N.A Think Time : N.A Minimum Instruction Time : 0

Correct Marks : 5 Wrong Marks : 1

Question Key Details :

| Key | Value |
|---------------|-------|
| Comprehension | MCQ |

Which of the following colour scheme refers to a colour combination using two or three hues that lie side by side on the colour wheel?

1. Achromatic harmony
2. Accented neutral
3. Analogous harmony
4. Complementary harmony

Options :

485584146193. 1
485584146194. 2
485584146195. 3
485584146196. 4

Question Number : 164 Question Id : 48558436549 Question Type : MCQ Option Shuffling : No Is Question Mandatory : No Calculator : None Response Time : N.A Think Time : N.A Minimum Instruction Time : 0

Correct Marks : 5 Wrong Marks : 1

Question Key Details :

| Key | Value |
|---------------|-------|
| Comprehension | MCQ |

দুই বা তিনটি রং এর সহযোগে যে মিশ্র রঙ প্রস্তুত হয় তা বর্মচক্র বা color wheel এর পাশাপাশি অবস্থান করে

1. একক বর্ণ (Achromatic)
2. উজ্জ্বল নিরপেক্ষ (Accented neutral)
3. অনুরূপ বর্ণ (Analogous harmony)
4. পূরক বর্ণ সমন্বয় (Complementary harmony)

Options :

485584146193. 1
485584146194. 2
485584146195. 3
485584146196. 4

Question Number : 165 Question Id : 48558436550 Question Type : MCQ Option Shuffling : No Is Question Mandatory : No Calculator : None Response Time : N.A Think Time : N.A Minimum Instruction Time : 0

Correct Marks : 5 Wrong Marks : 1

Question Key Details :

| Key | Value |
|---------------|-------|
| Comprehension | MCQ |

The term "Development Communication" was first coined by Quebral in which year?

1. 1969
2. 1970
3. 1972
4. 1974

Options :

485584146197. 1
485584146198. 2
485584146199. 3
485584146200. 4

Question Number : 165 Question Id : 48558436550 Question Type : MCQ Option Shuffling : No Is Question Mandatory : No Calculator : None Response Time : N.A Think Time : N.A Minimum Instruction Time : 0

Correct Marks : 5 Wrong Marks : 1

Question Key Details :

| Key | Value |
|---------------|-------|
| Comprehension | MCQ |

উন্নয়ন যোগাযোগ বা 'যোগাযোগব্যবস্থার বিকাশ' শব্দটি বলতে আপনি কি বোঝেন

1. শিল্প এবং বিজ্ঞানের মৌখিক যোগাযোগ
2. শিল্প এবং বিজ্ঞানের ডিজিটাল যোগাযোগ
3. শিল্প এবং বিজ্ঞানের মানবীয় যোগাযোগ
4. শিল্প এবং বিজ্ঞানের বিষয়বস্তুর বিকাশ

Options :

485584146197. 1
485584146198. 2
485584146199. 3
485584146200. 4

Question Number : 166 Question Id : 48558436551 Question Type : MCQ Option Shuffling : No Is Question Mandatory : No Calculator : None Response Time : N.A Think Time : N.A Minimum Instruction Time : 0

Correct Marks : 5 Wrong Marks : 1

Question Key Details :

| Key | Value |
|---------------|-------|
| Comprehension | MCQ |

To create focused attention on a small village in Delhi, the Project village Chattera was started in 1969. Which newspaper was involved in this project?

1. The Times of India
2. The Hindustan Times
3. Navbharat times
4. The Hindu

Options :

485584146201. 1
485584146202. 2
485584146203. 3
485584146204. 4

Question Number : 166 Question Id : 48558436551 Question Type : MCQ Option Shuffling : No Is Question Mandatory : No Calculator : None Response Time : N.A Think Time : N.A Minimum Instruction Time : 0

Correct Marks : 5 Wrong Marks : 1

Question Key Details :

| Key | Value |
|---------------|-------|
| Comprehension | MCQ |

বল্ল তত্ত্ব সমৃদ্ধ খাদ্য / পথ্য প্রদানের প্রস্তাবিত করা হয়

1. উদরাময়
2. কোষ্ঠকাঠিন্য
3. মধুমেহ
4. হৃদরোগ

Options :

485584146205. 1
485584146206. 2
485584146207. 3
485584146208. 4

Question Number : 168 Question Id : 48558436553 Question Type : MCQ Option Shuffling : No Is Question Mandatory : No Calculator : None Response Time : N.A Think Time : N.A Minimum Instruction Time : 0

Correct Marks : 5 Wrong Marks : 1

Question Key Details :

| Key | Value |
|---------------|-------|
| Comprehension | MCQ |

Which of the following is a welfare catering service ?

1. Holiday camps
2. Langar
3. Clubs
4. Flight kitchens

Options :

485584146209. 1
485584146210. 2
485584146211. 3
485584146212. 4

Question Number : 168 Question Id : 48558436553 Question Type : MCQ Option Shuffling : No Is Question Mandatory : No Calculator : None Response Time : N.A Think Time : N.A Minimum Instruction Time : 0

Correct Marks : 5 Wrong Marks : 1

Question Key Details :

| Key | Value |
|---------------|-------|
| Comprehension | MCQ |

এর মধ্যে কোন পরিসেবাটি কল্যানমূলক খাদ্য পরিসেবা

1. ছুটির দিনের ক্যাম্প (Holiday camps)
2. শিল্প ক্যান্টিন (Industrial canteen)
3. ক্লাব (Clubs)
4. ভ্রাম্যমান কাটারিং (Mobile catering)

Options :

485584146209. 1
485584146210. 2
485584146211. 3
485584146212. 4

Question Number : 169 Question Id : 48558436554 Question Type : MCQ Option Shuffling : No Is Question Mandatory : No Calculator : None Response Time : N.A Think Time : N.A Minimum Instruction Time : 0

Correct Marks : 5 Wrong Marks : 1

Question Key Details :

| Key | Value |
|---------------|-------|
| Comprehension | MCQ |

Which of these is NOT a feature of GMP (Good Manufacturing Practice)?

1. Minimise false labelling
2. Consumer education
3. Eliminate contamination
4. Mislead consumer

Options :

485584146213. 1
485584146214. 2
485584146215. 3
485584146216. 4

Question Number : 169 Question Id : 48558436554 Question Type : MCQ Option Shuffling : No Is Question Mandatory : No Calculator : None Response Time : N.A Think Time : N.A Minimum Instruction Time : 0

Correct Marks : 5 Wrong Marks : 1

Question Key Details :

| Key | Value |
|---------------|-------|
| Comprehension | MCQ |

এগুলির মধ্যে কোনটি GMP (Good Manufacturing Practice) এর বৈশিষ্ট্য নয় -

1. মিথ্যা লেবেল / তথ্য কমানো
2. উপভোক্তা প্রশিক্ষণ
3. ভেজাল দূরিকরণ
4. উপভোক্তাদের বিভ্রান্ত করা

Options :

485584146213. 1
485584146214. 2
485584146215. 3
485584146216. 4

Question Number : 170 Question Id : 48558436555 Question Type : MCQ Option Shuffling : No Is Question Mandatory : No Calculator : None Response Time : N.A Think Time : N.A Minimum Instruction Time : 0

Correct Marks : 5 Wrong Marks : 1

Question Key Details :

| Key | Value |
|---------------|-------|
| Comprehension | MCQ |

In the context of food standards regulations, which of the following is an international reference for quality management of an organisation?

1. ISO 6000
2. ISO 7000
3. ISO 8000
4. ISO 9000

Options :

485584146217. 1
485584146218. 2
485584146219. 3
485584146220. 4

Question Number : 170 Question Id : 48558436555 Question Type : MCQ Option Shuffling : No Is Question Mandatory : No Calculator : None Response Time : N.A Think Time : N.A Minimum Instruction Time : 0

Correct Marks : 5 Wrong Marks : 1

Question Key Details :

| Key | Value |
|---------------|-------|
| Comprehension | MCQ |

ফুড স্ট্যান্ডার্স রেগুলেশন এর অনুসারে, এর মধ্যে কোনটি একটি সংগঠনের বা সংস্থার গুণমান রক্ষণাবেক্ষণের আন্তঃজাতীয় স্তরে সম্পর্ক স্থাপন করে

1. ISO 6000
2. ISO 7000
3. ISO 8000
4. ISO 9000

Options :

485584146217. 1
485584146218. 2
485584146219. 3
485584146220. 4

Question Number : 171 Question Id : 48558436556 Question Type : MCQ Option Shuffling : No Is Question Mandatory : No Calculator : None Response Time : N.A Think Time : N.A Minimum Instruction Time : 0

Correct Marks : 5 Wrong Marks : 1

Question Key Details :

| Key | Value |
|---------------|-------|
| Comprehension | MCQ |

In the context of food safety, intentional or accidental addition of impure ingredients that alters the properties and diminishes the quality of food is known as _____.

1. Contamination
2. Toxicity
3. Adulteration
4. Hazard

Options :

485584146221. 1
485584146222. 2
485584146223. 3
485584146224. 4

Question Number : 171 Question Id : 48558436556 Question Type : MCQ Option Shuffling : No Is Question Mandatory : No Calculator : None Response Time : N.A Think Time : N.A Minimum Instruction Time : 0

Correct Marks : 5 Wrong Marks : 1

Question Key Details :

| Key | Value |
|---------------|-------|
| Comprehension | MCQ |

খাদ্য নিরাপত্তা প্রসঙ্গে, ইচ্ছাকৃত বা অনিচ্ছাকৃত অশুদ্ধি উপাদান সংযোগের ফলে খাদ্যের বৈশিষ্ট্যগত ও গুণগত মান পরিবর্তনকে বলা হল _____।

1. দূষিত
2. বিষাক্ত
3. ভেজাল
4. ক্ষতিকারক

Options :

485584146221. 1
485584146222. 2
485584146223. 3
485584146224. 4

Question Number : 172 Question Id : 48558436557 Question Type : MCQ Option Shuffling : No Is Question Mandatory : No Calculator : None Response Time : N.A Think Time : N.A Minimum Instruction Time : 0

Correct Marks : 5 Wrong Marks : 1

Question Key Details :

| Key | Value |
|---------------|-------|
| Comprehension | MCQ |

Fortification as an intervention is used under which of the following strategies to combat public nutrition problems ?

1. Nutrient based strategy
2. Medicinal strategy
3. Diet based strategy
4. Supplement based strategy

Options :

485584146225. 1
485584146226. 2
485584146227. 3
485584146228. 4

Question Number : 172 Question Id : 48558436557 Question Type : MCQ Option Shuffling : No Is Question Mandatory : No Calculator : None Response Time : N.A Think Time : N.A Minimum Instruction Time : 0

Correct Marks : 5 Wrong Marks : 1

Question Key Details :

| Key | Value |
|---------------|-------|
| Comprehension | MCQ |

কিৰূপ কৌশল গ্ৰহণ কৰে জনগণেৰ পুষ্টিগত সমস্যা সমাধানৰ জন্ম ফৰটিফিকেশ্বন পদ্ধতিতে ৰূপান্তৰ ঘটানো হয়।

1. পুষ্টি উপাদান ভিত্তিক কৌশল
2. ঔষধ সম্বন্ধীয় কৌশল
3. পথ্য বা খাদ্য ভিত্তিক কৌশল
4. অনুপূৰক ভিত্তিক কৌশল

Options :

485584146225. 1
485584146226. 2
485584146227. 3
485584146228. 4

Question Number : 173 Question Id : 48558436558 Question Type : MCQ Option Shuffling : No Is Question Mandatory : No Calculator : None Response Time : N.A Think Time : N.A Minimum Instruction Time : 0

Correct Marks : 5 Wrong Marks : 1

Question Key Details :

| Key | Value |
|---------------|-------|
| Comprehension | MCQ |

Which of the following is referred to as "Hidden Hunger" in the context of nutritional problems?

1. Micronutrient deficiencies
2. Malnutrition
3. Stunting
4. Wasting

Options :

485584146229. 1
485584146230. 2
485584146231. 3
485584146232. 4

Question Number : 173 Question Id : 48558436558 Question Type : MCQ Option Shuffling : No Is Question Mandatory : No Calculator : None Response Time : N.A Think Time : N.A Minimum Instruction Time : 0

Correct Marks : 5 Wrong Marks : 1

Question Key Details :

| Key | Value |
|---------------|-------|
| Comprehension | MCQ |

পুষ্টিগত সমস্যার মধ্যে কোনটিকে " হিডেন হাঙ্গার" বলে অভিহিত করা হয়?

1. অনু উপাদানের ঘাটতি (Micronutrient deficiencies)
2. রক্তাল্পতা
3. আয়োডিনের অভাবজনিত ব্যাধি (IDD)
4. প্রোটিন এনার্জি ম্যালনিউট্রিশন (PEM)

Options :

485584146229. 1
485584146230. 2
485584146231. 3
485584146232. 4

Question Number : 174 Question Id : 48558436559 Question Type : MCQ Option Shuffling : No Is Question Mandatory : No Calculator : None Response Time : N.A Think Time : N.A Minimum Instruction Time : 0

Correct Marks : 5 Wrong Marks : 1

Question Key Details :

| Key | Value |
|---------------|-------|
| Comprehension | MCQ |

Which of the following government body framed the National Nutrition Policy (NNP) of India in the year 1993?

1. Department of Women and Child Development
2. Ministry of Health and Family Welfare
3. Department of Science and Technology
4. Ministry of Consumer Affairs

Options :

485584146233. 1
485584146234. 2
485584146235. 3
485584146236. 4

Question Number : 174 Question Id : 48558436559 Question Type : MCQ Option Shuffling : No Is Question Mandatory : No Calculator : None Response Time : N.A Think Time : N.A Minimum Instruction Time : 0

Correct Marks : 5 Wrong Marks : 1

Question Key Details :

| Key | Value |
|---------------|-------|
| Comprehension | MCQ |

১৯৯৩ সালে ভারতে ন্যাশনাল নিউট্রিশনাল পলিসি (NNP) কোন মন্ত্রণালয়ের দ্বারা রূপায়িত?

1. Department of Women and Child Development
2. Ministry of Food and Nutrition
3. Department of Science and Technology
4. Ministry of Consumer Affairs

Options :

485584146233. 1
485584146234. 2
485584146235. 3
485584146236. 4

Question Number : 175 Question Id : 48558436560 Question Type : MCQ Option Shuffling : No Is Question Mandatory : No Calculator : None Response Time : N.A Think Time : N.A Minimum Instruction Time : 0

Correct Marks : 5 Wrong Marks : 1

Question Key Details :

| Key | Value |
|---------------|-------|
| Comprehension | MCQ |

Arrange the organizational structure / hierarchy followed by housekeeping department from top to bottom.

- A. Assistant housekeeper
- B. Room attendant
- C. Executive housekeeper
- D. Housemen
- E. Floor supervisor

Choose the correct answer from the options given below:

1. A, B, C, D, E
2. C, A, E, D, B
3. A, C, E, B, D
4. C, A, E, B, D

Options :

485584146237. 1
485584146238. 2
485584146239. 3
485584146240. 4

Question Number : 175 Question Id : 48558436560 Question Type : MCQ Option Shuffling : No Is Question Mandatory : No Calculator : None Response Time : N.A Think Time : N.A Minimum Instruction Time : 0

Correct Marks : 5 Wrong Marks : 1

Question Key Details :

| Key | Value |
|---------------|-------|
| Comprehension | MCQ |

কোনো সংস্থার হাউসকিপিং বিভাগের গঠনের উপর ভিত্তি করে নিম্নক্রমে সাজাও

- A. অ্যাসিস্টেন্ট হাউসকিপিং
- B. রুম অ্যাটেনডেন্ট
- C. এক্সিকিউটিভ হাউসকিপিং
- D. গৃহরক্ষী (Houseman)
- E. ফ্লর সুপারভাইসার

সঠিক উত্তরটি বেছে নাও:

- 1. A, B, C, D, E
- 2. C, A, E, D, B
- 3. A, C, E, B, D
- 4. C, A, E, B, D

Options :

- 485584146237. 1
- 485584146238. 2
- 485584146239. 3
- 485584146240. 4

Question Number : 176 Question Id : 48558436561 Question Type : MCQ Option Shuffling : No Is Question Mandatory : No Calculator : None Response Time : N.A Think Time : N.A Minimum Instruction Time : 0

Correct Marks : 5 Wrong Marks : 1

Question Key Details :

| Key | Value |
|---------------|-------|
| Comprehension | MCQ |

Give the correct sequence of different stages of apparel production.

- A. Finishing and packaging
- B. Procurement and inspection of raw material
- C. Laying and cutting of fabric / material
- D. Assembly of the product

Choose the correct answer from the options given below:

- 1. A, B, C, D
- 2. B, A, C, D
- 3. D, A, B, C
- 4. B, C, D, A

Options :

- 485584146241. 1
- 485584146242. 2
- 485584146243. 3
- 485584146244. 4

Question Number : 176 Question Id : 48558436561 Question Type : MCQ Option Shuffling : No Is Question Mandatory : No Calculator : None Response Time : N.A Think Time : N.A Minimum Instruction Time : 0

Correct Marks : 5 Wrong Marks : 1

Question Key Details :

| Key | Value |
|---------------|-------|
| Comprehension | MCQ |

পোশাক তৈরীর বিভিন্ন পর্যায়গুলি সঠিক ক্রমানুসারে সাজাও

- A. পরিপাঠ্য এবং প্যাকিং
- B. কাঁচামালের সংগ্রহ ও নিরীক্ষণ
- C. বস্ত্রকে বিছানো এবং কাটা
- D. বস্ত্র / দ্রব্য একত্রীকরণ

নিম্নপ্রদত্ত উত্তরের মধ্যে সঠিক উত্তর বেছে নাও:

- 1. A, B, C, D
- 2. B, A, C, D
- 3. D, A, B, C
- 4. B, C, D, A

Options :

- 485584146241. 1
- 485584146242. 2
- 485584146243. 3
- 485584146244. 4

Question Number : 177 Question Id : 48558436562 Question Type : MCQ Option Shuffling : No Is Question Mandatory : No Calculator : None Response Time : N.A Think Time : N.A Minimum Instruction Time : 0

Correct Marks : 5 Wrong Marks : 1

Question Key Details :

| Key | Value |
|---------------|-------|
| Comprehension | MCQ |

Arrange the given steps of nutritional care during illness in the correct sequence:

- A. Assessing nutritional status
- B. Planning and prioritising nutrition intervention(s)
- C. Diagnosis of nutritional problems
- D. Making changes in the nutritional care outcomes, if necessary
- E. Evaluating nutritional care outcomes

Choose the correct answer from the options given below:

- 1. C, B, A, D, E
- 2. C, E, B, A, D
- 3. A, C, B, E, D
- 4. A, C, B, D, E

Options :

- 485584146245. 1
- 485584146246. 2
- 485584146247. 3
- 485584146248. 4

Question Number : 177 Question Id : 48558436562 Question Type : MCQ Option Shuffling : No Is Question Mandatory : No Calculator : None Response Time : N.A Think Time : N.A Minimum Instruction Time : 0

Correct Marks : 5 Wrong Marks : 1

Question Key Details :

| Key | Value |
|---------------|-------|
| Comprehension | MCQ |

নিম্নপ্রদত্ত পুষ্টিগত যন্ত্র বা পরিপোষনের পর্যায়গুলি সঠিক ক্রমান্বয়ে সাজাও

- A. পুষ্টিগত গুণমান নির্বাচন
- B. পরিকল্পনা এবং চাহিদা অনুযায়ী পুষ্টিগত পরিবর্তন
- C. সমস্যার নির্ধারণ
- D. যদি প্রয়োজন হয় পরিবর্তন করা
- E. শেষার্ধে, পুষ্টিগত যন্ত্রাতির মূল্যায়ন

সঠিক উত্তর বেছে নাও:

- 1. C, B, A, D, E
- 2. C, E, B, A, D
- 3. A, C, B, E, D
- 4. A, C, B, D, E

Options :

- 485584146245. 1
- 485584146246. 2
- 485584146247. 3

485584146248. 4

Question Number : 178 Question Id : 48558436563 Question Type : MCQ Option Shuffling : No Is Question Mandatory : No Calculator : None Response Time : N.A Think Time : N.A Minimum Instruction Time : 0

Correct Marks : 5 Wrong Marks : 1

Question Key Details :

| Key | Value |
|---------------|-------|
| Comprehension | MCQ |

Which of the following is NOT a department/sector in hospitality industry?

1. Recruitment and staffing
2. Entertainment and recreation
3. Accommodation or front office
4. Food and beverage service

Options :

485584146249. 1
485584146250. 2
485584146251. 3
485584146252. 4

Question Number : 178 Question Id : 48558436563 Question Type : MCQ Option Shuffling : No Is Question Mandatory : No Calculator : None Response Time : N.A Think Time : N.A Minimum Instruction Time : 0

Correct Marks : 5 Wrong Marks : 1

Question Key Details :

| Key | Value |
|---------------|-------|
| Comprehension | MCQ |

নিচের কোনটি অতিথ্যতা ব্যবস্থাপনার অধীনে গুরুত্বপূর্ণ বিভাগ?

- A. বিনোদন এবং বিভূবিনোদন
- B. নিয়োগ এবং কর্মসংযোগ
- C. বাসস্থান বা সম্মুখ অফিস (Front office)
- D. খাদ্য ও পানীয়ের পরিসেবা
- E. প্রশিক্ষণ ও উন্নয়ন

নিচের বিকল্পগুলি থেকে সঠিক উত্তর বেছে নাও:

1. কেবলমাত্র A, C এবং D
2. কেবলমাত্র A, B এবং C
3. কেবলমাত্র A, B এবং D
4. কেবলমাত্র A, B এবং E

Options :

485584146249. 1

485584146250. 2
485584146251. 3
485584146252. 4

Question Number : 179 Question Id : 48558436564 Question Type : MCQ Option Shuffling : No Is Question Mandatory : No Calculator : None Response Time : N.A Think Time : N.A Minimum Instruction Time : 0

Correct Marks : 5 Wrong Marks : 1

Question Key Details :

| Key | Value |
|---------------|-------|
| Comprehension | MCQ |

Which of the following falls under the category of rewards given to sustain high performance employees in an organisation ?

- A. Paid holidays
- B. Tax incentives
- C. Financial packages for children's education
- D. Financial compensation like driver's wages
- E. Disability insurance

Choose the correct answer from the options given below:

- 1. A, C and E only
- 2. A, C and D only
- 3. A, D and E only
- 4. B, C and D only

Options :

485584146253. 1
485584146254. 2
485584146255. 3
485584146256. 4

Question Number : 179 Question Id : 48558436564 Question Type : MCQ Option Shuffling : No Is Question Mandatory : No Calculator : None Response Time : N.A Think Time : N.A Minimum Instruction Time : 0

Correct Marks : 5 Wrong Marks : 1

Question Key Details :

| Key | Value |
|---------------|-------|
| Comprehension | MCQ |

নিম্নপ্রদত্ত কোন বিভাগের মধ্যে একটি প্রতিষ্ঠানের উচ্চ কর্মক্ষমতা সম্পন্ন কর্মীদের টিকিয়ে রাখার জন্য পুরস্কৃত করা হয় ?

- A. পেড ছুটি
- B. টেল ইনসেন্টিভ
- C. বাচ্চাদের শিক্ষার জন্য আর্থিক সাহায্য
- D. চালকের মজুরির মতো আর্থিক ক্ষতিপূরণ
- E. অক্ষমতা বিমা

সঠিক উত্তরটি বেছে নিয়ে লেখো:

- 1. কেবলমাত্র A, C এবং E
- 2. কেবলমাত্র A, C এবং D
- 3. কেবলমাত্র A, D এবং E
- 4. কেবলমাত্র B, C এবং D

Options :

- 485584146253. 1
- 485584146254. 2
- 485584146255. 3
- 485584146256. 4

Question Number : 180 Question Id : 48558436565 Question Type : MCQ Option Shuffling : No Is Question Mandatory : No Calculator : None Response Time : N.A Think Time : N.A Minimum Instruction Time : 0

Correct Marks : 5 Wrong Marks : 1

Question Key Details :

| Key | Value |
|---------------|-------|
| Comprehension | MCQ |

Which of the following is NOT a function of human resources/talent management?

- 1. Marketing management
- 2. Getting the best employees
- 3. Retention and redressal
- 4. Training and developing employees

Options :

- 485584146257. 1
- 485584146258. 2
- 485584146259. 3
- 485584146260. 4

Question Number : 180 Question Id : 48558436565 Question Type : MCQ Option Shuffling : No Is Question Mandatory : No Calculator : None Response Time : N.A Think Time : N.A Minimum Instruction Time : 0

Correct Marks : 5 Wrong Marks : 1

Question Key Details :

| Key | Value |
|---------------|-------|
| Comprehension | MCQ |

সংস্থার উৎপাদন ক্ষমতা বৃদ্ধির জন্য HRM গুরুত্ব আরোপ করেন:

- A. কর্মীদের বিকাশ উন্নয়ন
- B. বিক্রয় বৃদ্ধি করা
- C. কর্মচারীদের পরিতৃপ্তি
- D. বাজারগত রক্ষণাবেক্ষণ
- E. অভিযোগ এবং প্রতিবিধান

সঠিক উত্তর বেছে নাও:

- 1. কেবলমাত্র A, C এবং E
- 2. কেবলমাত্র A, B এবং C
- 3. কেবলমাত্র A, B এবং D
- 4. কেবলমাত্র A, D এবং E

Options :

- 485584146257. 1
- 485584146258. 2
- 485584146259. 3
- 485584146260. 4

Question Number : 181 Question Id : 48558436566 Question Type : MCQ Option Shuffling : No Is Question Mandatory : No Calculator : None Response Time : N.A Think Time : N.A Minimum Instruction Time : 0

Correct Marks : 5 Wrong Marks : 1

Question Key Details :

| Key | Value |
|---------------|-------|
| Comprehension | MCQ |

A diet can be modified to meet the medical needs of a patient through which of the following?

- A. Changing consistency and/or texture
- B. Adding supplements
- C. Increase or decrease in the amount of one or more nutrients
- D. Increase or decrease in caloric intake
- E. Making an all fruit diet

Choose the correct answer from the options given below:

- 1. A, B and E only
- 2. A, C and E only
- 3. B, C and D only
- 4. A, C and D only

Options :

485584146261. 1
485584146262. 2
485584146263. 3
485584146264. 4

Question Number : 181 Question Id : 48558436566 Question Type : MCQ Option Shuffling : No Is Question Mandatory : No Calculator : None Response Time : N.A Think Time : N.A Minimum Instruction Time : 0

Correct Marks : 5 Wrong Marks : 1

Question Key Details :

| Key | Value |
|---------------|-------|
| Comprehension | MCQ |

খাদ্য বা পথ্যের রূপান্তর করা হয়,রোগীর স্বস্থ্যগত প্রয়োজনীয় চাহিদা মেটাতে:

- A. ঘনত্ব বা গঠনগত পরিবর্তন
B. অনুপূরক পুষ্টি সংযুক্ত করা হয়
C. খাদ্য উপাদান বৃদ্ধি বা হ্রাস করে
D. ক্যালরির পরিমাণ বাড়িয়ে বা কমিয়ে
E. একটি সমস্ত রকম পথ্য তৈরি করে

সঠিক উত্তর বেছে নাও:

1. কেবলমাত্র A, B এবং E
2. কেবলমাত্র A, C এবং E
3. কেবলমাত্র B, C এবং D
4. কেবলমাত্র A, C এবং D

Options :

485584146261. 1
485584146262. 2
485584146263. 3
485584146264. 4

Question Number : 182 Question Id : 48558436567 Question Type : MCQ Option Shuffling : No Is Question Mandatory : No Calculator : None Response Time : N.A Think Time : N.A Minimum Instruction Time : 0

Correct Marks : 5 Wrong Marks : 1

Question Key Details :

| Key | Value |
|---------------|-------|
| Comprehension | MCQ |

Shreya wants to design a dress by incorporating rhythm design principle. Which of the following can NOT be used to create rhythm?

1. Use of contrasting colours
2. Cordation
3. Radiation
4. Parallelism

Options :

485584146265. 1
485584146266. 2
485584146267. 3
485584146268. 4

Question Number : 182 Question Id : 48558436567 Question Type : MCQ Option Shuffling : No Is Question Mandatory : No Calculator : None Response Time : N.A Think Time : N.A Minimum Instruction Time : 0

Correct Marks : 5 Wrong Marks : 1

Question Key Details :

| Key | Value |
|---------------|-------|
| Comprehension | MCQ |

শ্রেয় একটি পোশাক তৈরি করতে চায় সঠিক ছন্দে, পোশাক ছন্দ গড়ে তুলতে কোনটি সঠিক পথ ?

- A. পুনরাবৃত্তি
- B. এক বিষয় থেকে আর এক বিষয়ে ক্রম পরিবর্তন
- C. বিধিসম্মত সামঞ্জস্য
- D. বিকিরণ
- E. পাশাপাশি সমান্তরাল

সঠিক উত্তর বেছে নাও:

1. কেবলমাত্র A, B, D, E
2. কেবলমাত্র A, B, C, E
3. কেবলমাত্র B, C, D, E
4. কেবলমাত্র A, C, D, E

Options :

485584146265. 1
485584146266. 2
485584146267. 3
485584146268. 4

Question Number : 183 Question Id : 48558436568 Question Type : MCQ Option Shuffling : No Is Question Mandatory : No Calculator : None Response Time : N.A Think Time : N.A Minimum Instruction Time : 0

Correct Marks : 5 Wrong Marks : 1

Question Key Details :

| Key | Value |
|---------------|-------|
| Comprehension | MCQ |

Identify the aspects relating to care and maintenance of fabrics:

- A. Keeping the material free of physical damage
- B. Discard clothes if any damage occurs
- C. Refreshing or retaining the appearance by removing stains and dirt
- D. Retaining the textural and visual characteristics
- E. Changing the visual characteristics

Choose the correct answer from the options given below:

- 1. A, B and C only
- 2. B, C and D only
- 3. C, D and E only
- 4. A, C and D only

Options :

- 485584146269. 1
- 485584146270. 2
- 485584146271. 3
- 485584146272. 4

Question Number : 183 Question Id : 48558436568 Question Type : MCQ Option Shuffling : No Is Question Mandatory : No Calculator : None Response Time : N.A Think Time : N.A Minimum Instruction Time : 0

Correct Marks : 5 Wrong Marks : 1

Question Key Details :

| Key | Value |
|---------------|-------|
| Comprehension | MCQ |

বস্ত্রের যত্ন ও রক্ষণাবেক্ষণের কয়েকটি দিক রয়েছে, সেগুলি চিহ্নিত কর:

- A. উপাদানের শারীরিক ক্ষতি থেকে মুক্ত রাখা
- B. যদি কোনো ক্ষতি দেখা যায় তবে ফেলে দিন
- C. দাগ ও ময়লা অপসারণ করে সতেজতা এবং চেহারা ধরে রাখা
- D. গঠনগত এক চাক্ষুস বৈশিষ্ট্য ধরে রাখা
- E. দৃশ্যমান বা চাক্ষুস বৈশিষ্ট্য পরিবর্তন করা

সঠিক উত্তর বেছে নিয়ে লেখো:

- 1. কেবলমাত্র A, B এবং C
- 2. কেবলমাত্র B, C এবং D
- 3. কেবলমাত্র C, D এবং E
- 4. কেবলমাত্র A, C এবং D

Options :

485584146269. 1
485584146270. 2
485584146271. 3
485584146272. 4

Question Number : 184 Question Id : 48558436569 Question Type : MCQ Option Shuffling : No Is Question Mandatory : No Calculator : None Response Time : N.A Think Time : N.A Minimum Instruction Time : 0

Correct Marks : 5 Wrong Marks : 1

Question Key Details :

| Key | Value |
|---------------|-------|
| Comprehension | MCQ |

Which of the following does NOT fall under the category of straight lines ?

1. Vertical
2. Zig-zag
3. Horizontal
4. Diagonal

Options :

485584146273. 1
485584146274. 2
485584146275. 3
485584146276. 4

Question Number : 184 Question Id : 48558436569 Question Type : MCQ Option Shuffling : No Is Question Mandatory : No Calculator : None Response Time : N.A Think Time : N.A Minimum Instruction Time : 0

Correct Marks : 5 Wrong Marks : 1

Question Key Details :

| Key | Value |
|---------------|-------|
| Comprehension | MCQ |

নিম্নে প্রদত্ত বিকল্পগুলির কোন বিভাগগুলি সরলরেখার অন্তর্গত?

- A. উল্লম্ব
- B. অধিবৃত্ত সদৃশ
- C. সমান্তরাল
- D. তির্যক
- E. ধনুকাকৃতি

সঠিক উত্তর বেছে নাও:

- 1. কেবলমাত্র A, B এবং C
- 2. কেবলমাত্র A, C এবং D
- 3. কেবলমাত্র A, B এবং E
- 4. কেবলমাত্র C, D এবং E

Options :

- 485584146273. 1
- 485584146274. 2
- 485584146275. 3
- 485584146276. 4

Question Number : 185 Question Id : 48558436570 Question Type : MCQ Option Shuffling : No Is Question Mandatory : No Calculator : None Response Time : N.A Think Time : N.A Minimum Instruction Time : 0

Correct Marks : 5 Wrong Marks : 1

Question Key Details :

| Key | Value |
|---------------|-------|
| Comprehension | MCQ |

Match List I with List II

| LIST I (Processed foods) | | LIST II (Examples) | |
|-----------------------------|--------------------|-----------------------|-----------------|
| A. | Preserved foods | I. | Low sodium salt |
| B. | Manufactured foods | II. | Canned fruits |
| C. | Formulated foods | III. | Papads |
| D. | Medical foods | IV. | Ice creams |

Choose the correct answer from the options given below:

- 1. A-I, B-II, C-III, D-IV
- 2. A-II, B-III, C-I, D-IV
- 3. A-III, B-II, C-I, D-IV
- 4. A-II, B-III, C-IV, D-I

Options :

- 485584146277. 1
- 485584146278. 2

485584146279. 3

485584146280. 4

Question Number : 185 Question Id : 48558436570 Question Type : MCQ Option Shuffling : No Is Question Mandatory : No Calculator : None Response Time : N.A Think Time : N.A Minimum Instruction Time : 0

Correct Marks : 5 Wrong Marks : 1

Question Key Details :

| Key | Value |
|---------------|-------|
| Comprehension | MCQ |

List I ও List II এর মধ্যে মিল দেখাও

| LIST I (খাদ্য) | | LIST II (উদাহরণ) | |
|-------------------|--|---------------------|-----------------------------|
| A. | খাদ্য সংরক্ষণ (Preserved foods) | I. | স্বল্প সোডিয়াম যুক্ত খাদ্য |
| B. | খাদ্য প্রস্তুতকরণ (Manufactured foods) | II. | ক্যান্ডি খাদ্য |
| C. | প্রণতী খাদ্য (Formulated foods) | III. | পাপড় |
| D. | স্বাস্থ্যগত খাদ্য (Medical foods) | IV. | আইসক্রিম |

সঠিক উত্তর বেছে নাও:

1. A-I, B-II, C-III, D-IV

2. A-II, B-III, C-I, D-IV

3. A-III, B-II, C-I, D-IV

4. A-II, B-III, C-IV, D-I

Options :

485584146277. 1

485584146278. 2

485584146279. 3

485584146280. 4

Question Number : 186 Question Id : 48558436571 Question Type : MCQ Option Shuffling : No Is Question Mandatory : No Calculator : None Response Time : N.A Think Time : N.A Minimum Instruction Time : 0

Correct Marks : 5 Wrong Marks : 1

Question Key Details :

| Key | Value |
|---------------|-------|
| Comprehension | MCQ |

Match List I with List II

| LIST I (Terms) | LIST II (Explanation) |
|-------------------|---|
| A. Food Quality | I. Assurance that food will not cause any harm to the consumers |
| B. Toxicity | II. Relative probability that harm or injury will result when substance is not used in prescribed manner and quantity |
| C. Food Safety | III. Capacity of a substance to produce harm or injury of any kind under any conditions |
| D. Hazard | IV. Attributes that influence a product's value to consumers |

Choose the correct answer from the options given below:

1. A-IV, B-III, C-I, D-II
2. A-I, B-II, C-III, D-IV
3. A-I, B-IV, C-II, D-III
4. A-IV, B-III, C-II, D-I

Options :

485584146281. 1
485584146282. 2
485584146283. 3
485584146284. 4

Question Number : 186 Question Id : 48558436571 Question Type : MCQ Option Shuffling : No Is Question Mandatory : No Calculator : None Response Time : N.A Think Time : N.A Minimum Instruction Time : 0

Correct Marks : 5 Wrong Marks : 1

Question Key Details :

| Key | Value |
|---------------|-------|
| Comprehension | MCQ |

List I ও List II এর মিল দেখাও

| LIST I (পরিভাষা) | LIST II (ব্যাখ্যা) |
|---------------------|--|
| A. খাদ্যের মান | I. বিশ্বাসে যে খাদ্য কোন রূপ ক্ষতি করবে না |
| B. বিষাক্ত | II. আপেক্ষিক সম্ভাবনা যে ক্ষতি বা প্রভাব পড়তে নির্ধারিত পদ্ধতির ব্যবহার না করলে |
| C. খাদ্যের সুরক্ষা | III. একটি পদার্থের ক্ষতিকারক ক্ষমতা |
| D. ক্ষতিকারক | IV. গুণাবলী যা ক্রেতার কাছে দ্রব্যমূল্যের মান বজায় রাখে |

সঠিক উত্তর বেছে নাও:

1. A-IV, B-III, C-I, D-II
2. A-I, B-II, C-III, D-IV
3. A-I, B-IV, C-II, D-III
4. A-IV, B-III, C-II, D-I

Options :

485584146281. 1

485584146282. 2
485584146283. 3
485584146284. 4

Question Number : 187 Question Id : 48558436572 Question Type : MCQ Option Shuffling : No Is Question Mandatory : No Calculator : None Response Time : N.A Think Time : N.A Minimum Instruction Time : 0

Correct Marks : 5 Wrong Marks : 1

Question Key Details :

| Key | Value |
|---------------|-------|
| Comprehension | MCQ |

Match List I with List II

| LIST I (Extension Projects) | LIST II (Communication tools used) |
|--------------------------------|---------------------------------------|
| A. RRE | I. Satellite |
| B. SEWA | II. Print media |
| C. Project Village Chhatara | III. Campaign |
| D. EDUSAI | IV. ICT |

Choose the correct answer from the options given below:

1. A-II, B-I, C-IV, D-III
2. A-IV, B-I, C-III, D-II
3. A-III, B-IV, C-II, D-I
4. A-II, B-III, C-I, D-IV

Options :

485584146285. 1
485584146286. 2
485584146287. 3
485584146288. 4

Question Number : 187 Question Id : 48558436572 Question Type : MCQ Option Shuffling : No Is Question Mandatory : No Calculator : None Response Time : N.A Think Time : N.A Minimum Instruction Time : 0

Correct Marks : 5 Wrong Marks : 1

Question Key Details :

| Key | Value |
|---------------|-------|
| Comprehension | MCQ |

List I ও List II মেলাও

| LIST I (সম্প্রসারণ প্রোজেক্ট) | | LIST II (যোগসংযোগ/যোগাযোগে ব্যবহৃত উপাদান) | |
|----------------------------------|--------------------------|--|--------------------|
| A | RRE | I | টেলিভিশন |
| B | SEWA | II | পেন্ট মিডিয়া |
| C | Project village chhatera | III | অভিযান/ ক্যাম্পেইন |
| D | EDUSAT | IV | ICT |

সঠিক উত্তর বেছে নাও:

1. A-II, B-I, C-IV, D-III
2. A-IV, B-I, C-III, D-II
3. A-III, B-IV, C-II, D-I
4. A-II, B-III, C-I, D-IV

Options :

485584146285. 1
485584146286. 2
485584146287. 3
485584146288. 4

Question Number : 188 Question Id : 48558436573 Question Type : MCQ Option Shuffling : No Is Question Mandatory :
No Calculator : None Response Time : N.A Think Time : N.A Minimum Instruction Time : 0

Correct Marks : 5 Wrong Marks : 1

Question Key Details :

| Key | Value |
|---------------|-------|
| Comprehension | MCQ |

Match List I with List II

| LIST I (Terms) | | LIST II (Description) | |
|-------------------|--------------------|--------------------------|---|
| A | Quality Assurance | I | Process of implementation and monitoring of quality systems like TQM, ISO |
| B | Quality control | II | Process of problem solving with the purpose of getting a 'zero-defect' product |
| C | Quality Management | III | Characteristics of the product that are given by the buyer or desired by the consumer |
| D | Specifications | IV | Process of preventive problem management |

Choose the correct answer from the options given below:

1. A-IV, B-II, C-I, D-III
2. A-IV, B-I, C-II, D-III
3. A-IV, B-II, C-III, D-I
4. A-I, B-II, C-IV, D-III

Options :

485584146289. 1

485584146290. 2

485584146291. 3

485584146292. 4

Question Number : 188 Question Id : 48558436573 Question Type : MCQ Option Shuffling : No Is Question Mandatory : No Calculator : None Response Time : N.A Think Time : N.A Minimum Instruction Time : 0

Correct Marks : 5 Wrong Marks : 1

Question Key Details :

| Key | Value |
|---------------|-------|
| Comprehension | MCQ |

List I ও List II মিল দেখাও

| LIST I (শব্দ / পরিভাষা) | LIST II (অর্থ) |
|----------------------------|--|
| A. গুণমান | I. গুণমান সংক্রান্ত পদ্ধতির প্রয়োগ ও রক্ষণাবেক্ষণের প্রক্রিয়া |
| B. গুণমান নিয়ন্ত্রন | II. সমস্যা সমাধানের প্রক্রিয়া যার দ্বারা শূন্য ত্রুটিযুক্ত দ্রব্য পাওয়া যায় |
| C. গুণমান রক্ষণাবেক্ষণ | III. উপভোক্তার দ্বারা বাস্তব ত্রুটিপূর্ণ পণ্যদ্রব্যের বৈশিষ্ট্য |
| D. নির্দিষ্টকরণ | IV. সমস্যার সমাধানের প্রক্রিয়ার রক্ষণাবেক্ষণ |

সঠিক উত্তর বেছে নাও:

1. A-IV, B-II, C-I, D-III

2. A-IV, B-I, C-II, D-III

3. A-IV, B-II, C-III, D-I

4. A-I, B-II, C-IV, D-III

Options :

485584146289. 1

485584146290. 2

485584146291. 3

485584146292. 4

Question Number : 189 Question Id : 48558436574 Question Type : MCQ Option Shuffling : No Is Question Mandatory : No Calculator : None Response Time : N.A Think Time : N.A Minimum Instruction Time : 0

Correct Marks : 5 Wrong Marks : 1

Question Key Details :

| Key | Value |
|---------------|-------|
| Comprehension | MCQ |

Match List I with List II

| LIST I (Designations) | | LIST II (Duties) | |
|--------------------------|-----------------|---------------------|---|
| A. | Head waiter | I. | Reserves, registers and assign rooms to guests |
| B. | Chef-de-cuisine | II. | Supervisors for some sections of the kitchen |
| C. | Receptionist | III. | Lead a team of waiters/stewards |
| D. | Chef-de-parties | IV. | Planning, organising and controlling the kitchen operations |

Choose the correct answer from the options given below:

1. A-III, B-IV, C-I, D-II
2. A-II, B-IV, C-III, D-I
3. A-I, B-II, C-III, D-IV
4. A-IV, B-II, C-I, D-III

Options :

485584146293. 1
485584146294. 2
485584146295. 3
485584146296. 4

Question Number : 189 Question Id : 48558436574 Question Type : MCQ Option Shuffling : No Is Question Mandatory : No Calculator : None Response Time : N.A Think Time : N.A Minimum Instruction Time : 0

Correct Marks : 5 Wrong Marks : 1

Question Key Details :

| Key | Value |
|---------------|-------|
| Comprehension | MCQ |

List I ও List II মেলাও

| LIST I (কর্মচারীর অবস্থান) | | LIST II (দায়িত্ব) | |
|----------------------------------|----------------|-----------------------|----------------------|
| A. | হেড ওয়েটার | I. | ফ্রন্ট অফিস বিভাগ |
| B. | সেফ দ্য কুইসিন | II. | হাউসকিপিং বিভাগ |
| C. | রিসেপশনিস্ট | III. | খাদ্য ও পানীয় বিভাগ |
| D. | হেড হাউসম্যান | IV. | রান্নার বিভাগ |

সঠিক উত্তর বেছে নাও:

1. A-III, B-IV, C-I, D-II
2. A-II, B-IV, C-III, D-I
3. A-I, B-II, C-III, D-IV
4. A-IV, B-II, C-I, D-III

Options :

485584146293. 1

485584146294. 2
485584146295. 3
485584146296. 4

Question Number : 190 Question Id : 48558436575 Question Type : MCQ Option Shuffling : No Is Question Mandatory : No Calculator : None Response Time : N.A Think Time : N.A Minimum Instruction Time : 0

Correct Marks : 5 Wrong Marks : 1

Question Key Details :

| Key | Value |
|---------------|-------|
| Comprehension | MCQ |

Match List I with List II

| LIST I (Programme) | LIST II (Target group) | |
|-----------------------|---------------------------|---------------------------------|
| A. ICDS | I. | Children under 18 years of age |
| B. SOS | II. | College going students |
| C. Special homes | III. | Children below six years of age |
| D. NSS | IV. | Needy/abandoned children |

Choose the correct answer from the options given below:

1. A-I, B-IV, C-II, D-I
2. A-IV, B-III, C-I, D-II
3. A-III, B-IV, C-I, D-II
4. A-IV, B-III, C-II, D-I

Options :

485584146297. 1
485584146298. 2
485584146299. 3
485584146300. 4

Question Number : 190 Question Id : 48558436575 Question Type : MCQ Option Shuffling : No Is Question Mandatory : No Calculator : None Response Time : N.A Think Time : N.A Minimum Instruction Time : 0

Correct Marks : 5 Wrong Marks : 1

Question Key Details :

| Key | Value |
|---------------|-------|
| Comprehension | MCQ |

List I ও List II মিল দেখাও

| LIST I (প্রোগ্রাম) | | LIST II (নির্দিষ্ট দল) | |
|-----------------------|---------------------------|---------------------------|--------------------------------------|
| A. | ICDS | I. | শিশুদের হোম |
| B. | SOS | II. | যুবদের জন্য প্রোগ্রাম |
| C. | বিশেষ হোম (Special homes) | III. | শিশুদের জন্য প্রোগ্রাম |
| D. | NSS | IV. | পরিবার ভিত্তিক মেহ যন্ত্রের দুইভঙ্গি |

সঠিক উত্তর বেছে নাও:

1. A-I, B-IV, C-II, D-I
2. A-IV, B-III, C-I, D-II
3. A-III, B-IV, C-I, D-II
4. A-IV, B-III, C-II, D-I

Options :

485584146297. 1
485584146298. 2
485584146299. 3
485584146300. 4

Sub-Section Number :

2

Sub-Section Id :

4855842700

Question Shuffling Allowed :

No

Is Section Default? :

null

Question Number : 191 Question Id : 48558436576 Question Type : MCQ Option Shuffling : No Is Question Mandatory : No Calculator : None Response Time : N.A Think Time : N.A Minimum Instruction Time : 0

Correct Marks : 5 Wrong Marks : 1

Question Key Details :

| Key | Value |
|---------------|-------|
| Comprehension | Comp1 |

Read the passage carefully. Attempt Question

Anganwadi Centers (AWCs) are the most common and publicly available facilities, initially constituted in 1975 to strengthen the public health system by providing immunization and health check-ups, and later to provide supplementary nutrition non-formal pre-school education and day-care.

The two key elements of early childhood development include education and health. A child's early years (0 to 8 years) form the foundation of all learning and are therefore the most extraordinary period of development in a child's life. Research has shown that greater cognitive abilities and being developmentally on track with literacy and numeracy in childhood provide for better learning in school and higher educational attainment, leading to major social and economic gains for society in the long run. Similarly, providing children with a nurturing environment in early years, with adequate nutrition, hygiene, protection and responsive stimulation, boosts healthy childhood development and delivers positive outcomes.

The Anganwadi centers were started in which year in India?

1. 1975
2. 1980
3. 1982
4. 1984

Options :

485584146301. 1
485584146302. 2
485584146303. 3
485584146304. 4

Question Number : 191 Question Id : 48558436576 Question Type : MCQ Option Shuffling : No Is Question Mandatory : No Calculator : None Response Time : N.A Think Time : N.A Minimum Instruction Time : 0

Correct Marks : 5 Wrong Marks : 1

Question Key Details :

| Key | Value |
|---------------|-------|
| Comprehension | Comp1 |

আঙ্গনওয়াড়ি সেন্টার (AWCS) একটি খুবই সাধারণ জনসহায়ক পরিষেবা যা ১৯৭৫ সালে প্রথমে দিকে প্রতিস্থাপন করা হয় জনস্বাস্থ্য পরিষেবা সুদৃঢ় করতে যেখানে প্রতিষেধক টিকাপ্রদান, স্বাস্থ্যপরীক্ষা, পরবর্তীকালে অনুপূরকপুষ্টি, প্রথা বহির্ভূত প্রাক বিদ্যালয়ের শিক্ষা এবং দিবাকালিন যত্ন (Day care) প্রদান করা হয় যদিও, আঙ্গনওয়াড়ির দুর্বলতা হল নিম্ন গুণমানের পরিষেবা প্রদান যা ভালোভাবে নথিভুক্ত করা হয়েছে। আজকে ৫১ শতাংশ নিম্নমধ্যবৃষ্টি পরিবারে শিশুরা আঙ্গনওয়াড়িতে স্বতস্ফূর্ত ভাবে আসে। যেখানে ২০ শতাংশ উর্ধ্ববৃষ্টি পরিবারের অর্ধেকের বেশি শিশুরা প্রাইভেট কেয়ার পরিষেবা গ্রহণ করেন। এইরকম নিম্ন ও অসামঞ্জস্য AWC পরিষেবা দেশের উপর প্রভাব ফেলেছে। তাই ভারত Human Capital Index এ ১৭৪ দেশের মধ্যে ১১৬ তম স্থান অর্জন করেছে ২০২০ সালে। আবার Global Hunger Index এ ১০৭ টি দেশের মধ্যে ৯৮ তম স্থান অর্জন করেছে ২০২০ সালে যা অত্যন্ত দুঃখজনক।

প্রাথমিক শিশু বিকাশের ক্ষেত্রে শিক্ষা ও স্বাস্থ্য দুটি মূল উপাদান। একটি শিশু প্রারম্ভিক বছর (০ থেকে ৮ বছরের) সমস্ত শিক্ষার বুনিন্দা এবং এটি শিশুর বিকাশ জীবনের একটি অন্যতম পর্যায়। বিশেষজ্ঞরা পর্যবেক্ষণ করে দেখেছেন যে, উচ্চ জ্ঞানমূলক দক্ষতা যুক্ত শিশুদের মধ্যে সাক্ষরতা ও সংখ্যার সাথে উন্নয়ন ঘটে, যা বিদ্যালয় ও উচ্চশিক্ষার ক্ষেত্রে আরো ভাল শিক্ষা পেতে সহায়তা করে, যা দীর্ঘমেয়াদী সমাজের জন্য বৃহৎ ভাবে সামাজিক ও অর্থনৈতিক দিকে লাভের দিকে পরিচালিত করে। একইভাবে প্রাথমিক বছরগুলিতে পর্যাপ্ত পুষ্টি, স্বাস্থ্যবিধি সুরক্ষা এবং প্রতিক্রিয়াশীল উদ্দীপনা সহ শিশুদের একটি পুষ্টিকর পরিবেশ প্রদান করা স্বাস্থ্যকর শৈশব বিকাশকে উৎসাহিত করে এবং ইতিবাচক ফলাফল প্রদান করে।

ভারতে আঙ্গনওয়াড়ি সেন্টার কোন সালে আরম্ভ হয়

1. ১৯৭৫

2. ১৯৮০

3. ১৯৮২

4. ১৯৮৪

Options :

485584146301. 1

485584146302. 2

485584146303. 3

485584146304. 4

Question Number : 192 Question Id : 48558436577 Question Type : MCQ Option Shuffling : No Is Question Mandatory : No Calculator : None Response Time : N.A Think Time : N.A Minimum Instruction Time : 0

Correct Marks : 5 Wrong Marks : 1

Question Key Details :

| Key | Value |
|---------------|-------|
| Comprehension | Comp1 |

Read the passage carefully. Attempt Question

Anganwadi Centers (AWCs) are the most common and publicly available facilities, initially constituted in 1975 to strengthen the public health system by providing immunization and health check-ups, and later to provide supplementary nutrition non-formal pre-school education and day-care.

The two key elements of early childhood development include education and health. A child's early years (0 to 8 years) form the foundation of all learning and are therefore the most extraordinary period of development in a child's life. Research has shown that greater cognitive abilities and being developmentally on track with literacy and numeracy in childhood provide for better learning in school and higher educational attainment, leading to major social and economic gains for society in the long run. Similarly, providing children with a nurturing environment in early years, with adequate nutrition, hygiene, protection and responsive stimulation, boosts healthy childhood development and delivers positive outcomes.

Identify the functions of the Anganvadi centres from the following:

- A. Providing immunisation
- B. Supplementary nutrition
- C. Non-formal pre-school education
- D. Supporting children in doing home-work after school

Choose the correct answer from the options given below:

- 1. B, C and D only
- 2. A, B and D only
- 3. A, B and C only
- 4. A, D and C only

Options :

- 485584146305. 1
- 485584146306. 2
- 485584146307. 3
- 485584146308. 4

Question Number : 192 Question Id : 48558436577 Question Type : MCQ Option Shuffling : No Is Question Mandatory : No Calculator : None Response Time : N.A Think Time : N.A Minimum Instruction Time : 0

Correct Marks : 5 Wrong Marks : 1

Question Key Details :

| Key | Value |
|---------------|-------|
| Comprehension | Comp1 |

আঙ্গনওয়াড়ি সেন্টার (AWCS) একটি খুবই সাধারণ জনসহায়ক পরিষেবা যা ১৯৭৫ সালে প্রথমের দিকে প্রতিস্থাপন করা হয় জনস্বাস্থ্য পরিষেবা সুদৃঢ় করতে যেখানে প্রতিষেধক টিকাপ্রদান, স্বাস্থ্যপরীক্ষা, পরবর্তীকালে অনুপূরকপুষ্টি, প্রথা বহির্ভূত প্রাক বিদ্যালয়ের শিক্ষা এবং দিবাকালিন যত্ন (Day care) প্রদান করা হয় যদিও, আঙ্গনওয়াড়ির দুর্বলতা হল নিম্ন গুণমানের পরিষেবা প্রদান যা ভালোভাবে নথিভুক্ত করা হয়েছে। আজকে ৫১ শতাংশ নিম্নমধ্যবৃষ্টি পরিবারে শিশুরা অঙ্গনওয়াড়িতে স্বতস্ফূর্ত ভাবে আসে। যেখানে ২০ শতাংশ উর্ধ্ববৃষ্টি পরিবারের অর্ধেকের বেশি শিশুরা প্রাইভেচ কেয়ার পরিষেবা গ্রহণ করেন। এইরকম নিম্ন ও অসামঞ্জস্য AWC পরিষেবা দেশের উপর প্রভাব ফেলেছে। তাই ভারত Human Capital Index এ ১৭৪ দেশের মধ্যে ১১৬ তম স্থান অর্জন করেছে ২০২০ সালে। আবার Global Hunger Index এ ১০৭ টি দেশের মধ্যে ৯৮ তম স্থান অর্জন করেছে ২০২০ সালে যা অত্যন্ত দুঃখজনক।

প্রাথমিক শিশু বিকাশের ক্ষেত্রে শিক্ষা ও স্বাস্থ্য দুটি মূল উপাদান। একটি শিশু প্রারম্ভিক বছর (০ থেকে ৮ বছরের) সমস্ত শিক্ষার বুনিন্দা এবং এটি শিশুর বিকাশ জীবনের একটি অন্যতম পর্যায়। বিশেষজ্ঞরা পর্যবেক্ষণ করে দেখেছেন যে, উচ্চ জ্ঞানমূলক দক্ষতা যুক্ত শিশুদের মধ্যে সাক্ষরতা ও সংখ্যার সাথে উন্নয়ন ঘটে, যা বিদ্যালয় ও উচ্চশিক্ষার ক্ষেত্রে আরো ভাল শিক্ষা পেতে সহায়তা করে, যা দীর্ঘমেয়াদী সমাজের জন্য বৃহৎ ভাবে সামাজিক ও অর্থনৈতিক দিকে লাভের দিকে পরিচালিত করে। একইভাবে প্রাথমিক বছরগুলিতে পর্যাপ্ত পুষ্টি, স্বাস্থ্যবিধি সুরক্ষা এবং প্রতিক্রিয়াশীল উদ্দীপনা সহ শিশুদের একটি পুষ্টিকর পরিবেশ প্রদান করা স্বাস্থ্যকর শৈশব বিকাশকে উৎসাহিত করে এবং ইতিবাচক ফলাফল প্রদান করে।

অঙ্গনওয়াড়ি সেন্টার এর কর্মসূচী গুলি হল -

1. প্রতিষেধক টিকা প্রদান
2. অনুপূরক পুষ্টি
3. প্রথাবহির্ভূত প্রাক বিদ্যালয়ের শিক্ষা
4. বিদ্যালয়ের দেওয়া কার্য করতে শিশুদের সহায়তা করা সঠিক উত্তর বেছে নাও

Options :

485584146305. 1
485584146306. 2
485584146307. 3
485584146308. 4

Question Number : 193 Question Id : 48558436578 Question Type : MCQ Option Shuffling : No Is Question Mandatory : No Calculator : None Response Time : N.A Think Time : N.A Minimum Instruction Time : 0

Correct Marks : 5 Wrong Marks : 1

Question Key Details :

| Key | Value |
|---------------|-------|
| Comprehension | Comp1 |

Read the passage carefully. Attempt Question

Anganwadi Centers (AWCs) are the most common and publicly available facilities, initially constituted in 1975 to strengthen the public health system by providing immunization and health check-ups, and later to provide supplementary nutrition non-formal pre-school education and day-care.

The two key elements of early childhood development include education and health. A child's early years (0 to 8 years) form the foundation of all learning and are therefore the most extraordinary period of development in a child's life. Research has shown that greater cognitive abilities and being developmentally on track with literacy and numeracy in childhood provide for better learning in school and higher educational attainment, leading to major social and economic gains for society in the long run. Similarly, providing children with a nurturing environment in early years, with adequate nutrition, hygiene, protection and responsive stimulation, boosts healthy childhood development and delivers positive outcomes.

The two key elements of early childhood development are _____

1. Nutrition and immunisation
2. Health and education
3. School readiness and health
4. Day care and creche

Options :

485584146309. 1
485584146310. 2
485584146311. 3

Question Number : 193 Question Id : 48558436578 Question Type : MCQ Option Shuffling : No Is Question Mandatory : No Calculator : None Response Time : N.A Think Time : N.A Minimum Instruction Time : 0

Correct Marks : 5 Wrong Marks : 1

Question Key Details :

| Key | Value |
|---------------|-------|
| Comprehension | Comp1 |

আঙ্গনওয়াড়ি সেন্টার (AWCS) একটি খুবই সাধারণ জনসহায়ক পরিষেবা যা ১৯৭৫ সালে প্রথমে দিকে প্রতিস্থাপন করা হয় জনস্বাস্থ্য পরিষেবা সুদৃঢ় করতে যেখানে প্রতিষেধক টিকাপ্রদান, স্বাস্থ্যপরীক্ষা, পরবর্তীকালে অনুপূরকপুষ্টি, প্রথা বহির্ভূত প্রাক বিদ্যালয়ের শিক্ষা এবং দিবাকালীন যত্ন (Day care) প্রদান করা হয় যদিও, আঙ্গনওয়াড়ির দুর্বলতা হল নিম্ন গুণমানের পরিষেবা প্রদান যা ভালোভাবে নথিভুক্ত করা হয়েছে। আজকে ৫১ শতাংশ নিম্নমধ্যবৃষ্টি পরিবারে শিশুরা আঙ্গনওয়াড়িতে স্বতস্ফূর্ত ভাবে আসে। যেখানে ২০ শতাংশ উর্ধ্ববৃষ্টি পরিবারের অর্ধেকের বেশি শিশুরা প্রাইভেট কেয়ার পরিষেবা গ্রহণ করেন। এইরকম নিম্ন ও অসামঞ্জস্য AWC পরিষেবা দেশের উপর প্রভাব ফেলেছে। তাই ভারত Human Capital Index এ ১৭৪ দেশের মধ্যে ১১৬ তম স্থান অর্জন করেছে ২০২০ সালে। আবার Global Hunger Index এ ১০৭ টি দেশের মধ্যে ৯৮ তম স্থান অর্জন করেছে ২০২০ সালে যা অত্যন্ত দুঃখজনক।

প্রাথমিক শিশু বিকাশের ক্ষেত্রে শিক্ষা ও স্বাস্থ্য দুটি মূল উপাদান। একটি শিশু প্রারম্ভিক বছর (০ থেকে ৮ বছরের) সমস্ত শিক্ষার বুনিন্দা এবং এটি শিশুর বিকাশ জীবনের একটি অন্যতম পর্যায়। বিশেষজ্ঞরা পর্যবেক্ষণ করে দেখেছেন যে, উচ্চ জ্ঞানমূলক দক্ষতা যুক্ত শিশুদের মধ্যে সাক্ষরতা ও সংখ্যার সাথে উন্নয়ন ঘটে, যা বিদ্যালয় ও উচ্চশিক্ষার ক্ষেত্রে আরো ভাল শিক্ষা পেতে সহায়তা করে, যা দীর্ঘমেয়াদী সমাজের জন্য বৃহৎ ভাবে সামাজিক ও অর্থনৈতিক দিকে লাভের দিকে পরিচালিত করে। একইভাবে প্রাথমিক বছরগুলিতে পর্যাপ্ত পুষ্টি, স্বাস্থ্যবিধি সুরক্ষা এবং প্রতিক্রিয়াশীল উদ্দীপনা সহ শিশুদের একটি পুষ্টিকর পরিবেশ প্রদান করা স্বাস্থ্যকর শৈশব বিকাশকে উৎসাহিত করে এবং ইতিবাচক ফলাফল প্রদান করে।

প্রাথমিক শিশু বিকাশের দুটি গুরুত্বপূর্ণ উপাদান হল-

1. পুষ্টি ও প্রতিষেধক টিকা
2. স্বাস্থ্য ও শিক্ষাব্যবস্থা
3. বিদ্যালয়ের প্রস্তুতিপর্ব ও স্বাস্থ্য
4. দিবাকালীন যত্ন ও ক্রেশ

Options :

485584146309. 1
485584146310. 2
485584146311. 3
485584146312. 4

Question Number : 194 Question Id : 48558436579 Question Type : MCQ Option Shuffling : No Is Question Mandatory : No Calculator : None Response Time : N.A Think Time : N.A Minimum Instruction Time : 0

Correct Marks : 5 Wrong Marks : 1

Question Key Details :

| Key | Value |
|---------------|-------|
| Comprehension | Comp1 |

Read the passage carefully. Attempt Question

Anganwadi Centers (AWCs) are the most common and publicly available facilities, initially constituted in 1975 to strengthen the public health system by providing immunization and health check-ups, and later to provide supplementary nutrition non-formal pre-school education and day-care.

The two key elements of early childhood development include education and health. A child's early years (0 to 8 years) form the foundation of all learning and are therefore the most extraordinary period of development in a child's life. Research has shown that greater cognitive abilities and being developmentally on track with literacy and numeracy in childhood provide for better learning in school and higher educational attainment, leading to major social and economic gains for society in the long run. Similarly, providing children with a nurturing environment in early years, with adequate nutrition, hygiene, protection and responsive stimulation, boosts healthy childhood development and delivers positive outcomes.

The period of laying the foundation of all learning and rapid development during early childhood development is _____.

- 1. 3 to 6 years
- 2. 0 to 8 years
- 3. 1 to 2 years
- 4. 0 to 2 years

Options :

- 485584146313. 1
- 485584146314. 2
- 485584146315. 3
- 485584146316. 4

Question Number : 194 Question Id : 48558436579 Question Type : MCQ Option Shuffling : No Is Question Mandatory : No Calculator : None Response Time : N.A Think Time : N.A Minimum Instruction Time : 0

Correct Marks : 5 Wrong Marks : 1

Question Key Details :

| Key | Value |
|---------------|-------|
| Comprehension | Comp1 |

অঙ্গনওয়াড়ি সেন্টার (AWCS) একটি খুবই সাধারণ জনসহায়ক পরিষেবা যা ১৯৭৫ সালে প্রথমে দিকে প্রতিস্থাপন করা হয় জনস্বাস্থ্য পরিষেবা সুদৃঢ় করতে যেখানে প্রতিষেধক টিকাপ্রদান, স্বাস্থ্যপরীক্ষা, পরবর্তীকালে অনুপূরকপুষ্টি, প্রথা বহির্ভূত প্রাক বিদ্যালয়ের শিক্ষা এবং দিবাকালিন যত্ন (Day care) প্রদান করা হয় যদিও, অঙ্গনওয়াড়ির দুর্বলতা হল নিম্ন গুণমানের পরিষেবা প্রদান যা ভালোভাবে নথিভুক্ত করা হয়েছে। আজকে ৫১ শতাংশ নিম্নমধ্যবৃষ্টি পরিবারে শিশুরা অঙ্গনওয়াড়িতে স্বতস্ফূর্ত ভাবে আসে। যেখানে ২০ শতাংশ উর্ববৃষ্টি পরিবারের অর্ধেকের বেশি শিশুরা প্রাইভেট কেয়ার পরিষেবা গ্রহণ করেন। এইরকম নিম্ন ও অসামঞ্জস্য AWC পরিষেবা দেশের উপর প্রভাব ফেলেছে। তাই ভারত Human Capital Index এ ১৭৪ দেশের মধ্যে ১১৬ তম স্থান অর্জন করেছে ২০২০ সালে। আবার Global Hunger Index এ ১০৭ টি দেশের মধ্যে ৯৮ তম স্থান অর্জন করেছে ২০২০ সালে যা অত্যন্ত দুঃখজনক।

প্রাথমিক শিশু বিকাশের ক্ষেত্রে শিক্ষা ও স্বাস্থ্য দুটি মূল উপাদান। একটি শিশু প্রারম্ভিক বছর (০ থেকে ৮ বছরের) সমস্ত শিক্ষার বুনিন্যাদ এবং এটি শিশুর বিকাশ জীবনের একটি অন্যতম পর্যায়। বিশেষজ্ঞরা পর্যবেক্ষণ করে দেখেছেন যে, উচ্চ জ্ঞানমূলক দক্ষতা যুক্ত শিশুদের মধ্যে সাক্ষরতা ও সংখ্যার সাথে উন্নয়ন ঘটে, যা বিদ্যালয় ও উচ্চশিক্ষার ক্ষেত্রে আরো ভাল শিক্ষা পেতে সহায়তা করে, যা দীর্ঘমেয়াদী সমাজের জন্য বৃহৎ ভাবে সামাজিক ও অর্থনৈতিক দিকে লাভের দিকে পরিচালিত করে। একইভাবে প্রাথমিক বছরগুলিতে পর্যাপ্ত পুষ্টি, স্বাস্থ্যবিধি সুরক্ষা এবং প্রতিক্রিয়াশীল উদ্দীপনা সহ শিশুদের একটি পুষ্টিকর পরিবেশ প্রদান করা স্বাস্থ্যকর শৈশব বিকাশকে উৎসাহিত করে এবং ইতিবাচক ফলাফল প্রদান করে।

প্রাথমিক বাল্যকালের দ্রুত বিকাশের পর্যায়ের সময়কালে শুরু হয় _____ থেকে

1. ৩ থেকে ৬ বছর
2. ০ থেকে ৮ বছর
3. ১ থেকে ২ বছর
4. ০ থেকে ২ বছর

Options :

485584146313. 1
485584146314. 2
485584146315. 3
485584146316. 4

Question Number : 195 Question Id : 48558436580 Question Type : MCQ Option Shuffling : No Is Question Mandatory : No Calculator : None Response Time : N.A Think Time : N.A Minimum Instruction Time : 0

Correct Marks : 5 Wrong Marks : 1

Question Key Details :

| Key | Value |
|---------------|-------|
| Comprehension | Comp1 |

Read the passage carefully. Attempt Question

Anganwadi Centers (AWCs) are the most common and publicly available facilities, initially constituted in 1975 to strengthen the public health system by providing immunization and health check-ups, and later to provide supplementary nutrition non-formal pre-school education and day-care.

The two key elements of early childhood development include education and health. A child's early years (0 to 8 years) form the foundation of all learning and are therefore the most extraordinary period of development in a child's life. Research has shown that greater cognitive abilities and being developmentally on track with literacy and numeracy in childhood provide for better learning in school and higher educational attainment, leading to major social and economic gains for society in the long run. Similarly, providing children with a nurturing environment in early years, with adequate nutrition, hygiene, protection and responsive stimulation, boosts healthy childhood development and delivers positive outcomes.

To boost healthy childhood and getting positive outcomes in ECCE, which of the following needs to be provided?

- A. Adequate nutrition
- B. Responsive stimulation
- C. Hygiene
- D. Toys and games
- E. Immunisation

Choose the correct answer from the options given below:

- 1. A, B and C only
- 2. A, B and D only
- 3. B, C and D only
- 4. C, D and E only

Options :

- 485584146317. 1
- 485584146318. 2
- 485584146319. 3
- 485584146320. 4

Question Number : 195 Question Id : 48558436580 Question Type : MCQ Option Shuffling : No Is Question Mandatory : No Calculator : None Response Time : N.A Think Time : N.A Minimum Instruction Time : 0

Correct Marks : 5 Wrong Marks : 1

Question Key Details :

| Key | Value |
|---------------|-------|
| Comprehension | Comp1 |

আঙ্গনওয়াড়ি সেন্টার (AWCS) একটি খুবই সাধারণ জনসহায়ক পরিষেবা যা ১৯৭৫ সালে প্রথমে দিকে প্রতিস্থাপন করা হয় জনস্বাস্থ্য পরিষেবা সুদৃঢ় করতে যেখানে প্রতিষেধক টিকাপ্রদান, স্বাস্থ্যপরীক্ষা, পরবর্তীকালে অনুপূরকপুষ্টি, প্রথা বহির্ভূত প্রাক বিদ্যালয়ের শিক্ষা এবং দিবাকালিন যত্ন (Day care) প্রদান করা হয় যদিও, আঙ্গনওয়াড়ির দুর্বলতা হল নিম্ন গুণমানের পরিষেবা প্রদান যা ভালোভাবে নথিভুক্ত করা হয়েছে। আজকে ৫১ শতাংশ নিম্নমধ্যবৃষ্টি পরিবারে শিশুরা অঙ্গনওয়াড়িতে স্বতস্ফূর্ত ভাবে আসে। যেখানে ২০ শতাংশ উর্ববৃষ্টি পরিবারের অর্ধেকের বেশি শিশুরা প্রাইভেচ কেয়ার পরিষেবা গ্রহণ করেন। এইরকম নিম্ন ও অসামঞ্জস্য AWC পরিষেবা দেশের উপর প্রভাব ফেলেছে। তাই ভারত Human Capital Index এ ১৭৪ দেশের মধ্যে ১১৬ তম স্থান অর্জন করেছে ২০২০ সালে। আবার Global Hunger Index এ ১০৭ টি দেশের মধ্যে ৯৮ তম স্থান অর্জন করেছে ২০২০ সালে যা অত্যন্ত দুঃখজনক।

প্রাথমিক শিশু বিকাশের ক্ষেত্রে শিক্ষা ও স্বাস্থ্য দুটি মূল উপাদান। একটি শিশু প্রারম্ভিক বছর (০ থেকে ৮ বছরের) সমস্ত শিক্ষার বুনিন্যাদ এবং এটি শিশুর বিকাশ জীবনের একটি অন্যতম পর্যায়। বিশেষজ্ঞরা পর্যবেক্ষণ করে দেখেছেন যে, উচ্চ জ্ঞানমূলক দক্ষতা যুক্ত শিশুদের মধ্যে সাক্ষরতা ও সংখ্যার সাথে উন্নয়ন ঘটে, যা বিদ্যালয় ও উচ্চশিক্ষার ক্ষেত্রে আরো ভাল শিক্ষা পেতে সহায়তা করে, যা দীর্ঘমেয়াদী সমাজের জন্য বৃহৎ ভাবে সামাজিক ও অর্থনৈতিক দিকে লাভের দিকে পরিচালিত করে। একইভাবে প্রাথমিক বছরগুলিতে পর্যাপ্ত পুষ্টি, স্বাস্থ্যবিধি সুরক্ষা এবং প্রতিক্রিয়াশীল উদ্দীপনা সহ শিশুদের একটি পুষ্টিকর পরিবেশ প্রদান করা স্বাস্থ্যকর শৈশব বিকাশকে উৎসাহিত করে এবং ইতিবাচক ফলাফল প্রদান করে।

ECCE তে ইতিবাচক ফলাফল পেতে নিম্নলিখিত যত্নগুলি গ্রহণ করা প্রয়োজন -

- A. পর্যাপ্ত পরিমাণ পুষ্টিপ্রদান
- B. প্রতিক্রিয়াশীল উদ্দীপনা
- C. পরচ্ছন্নতা
- D. খেলনা ও গেম প্রদান
- E. প্রতিষেধক টিকা প্রদান

সঠিক উত্তর বেছে নাও:

- 1. কেবলমাত্র A, B এবং C
- 2. কেবলমাত্র A, B এবং D
- 3. কেবলমাত্র B, C এবং D
- 4. কেবলমাত্র C, D এবং E

Options :

- 485584146317. 1
- 485584146318. 2
- 485584146319. 3
- 485584146320. 4

Sub-Section Number :

3

Sub-Section Id :

4855842701

Question Shuffling Allowed :

No

Is Section Default? :

null

Question Number : 196 Question Id : 48558436581 Question Type : MCQ Option Shuffling : No Is Question Mandatory : No Calculator : None Response Time : N.A Think Time : N.A Minimum Instruction Time : 0 Correct Marks : 5 Wrong Marks : 1

Question Key Details :

| Key | Value |
|---------------|-------|
| Comprehension | Comp2 |

Read the passage carefully. Attempt Question

Consumers not only purchase products but a whole gamut of services like those of banks, other financial institutions, airlines and travel agencies; hospitals and other medical practitioners; public utilities like garbage collection, cleanliness and maintenance of roads, parks, etc; electricity water telephone, post and telegraph; educational institutions and so on.

Consumers face a number of problems with regard to these services like excessive billing, being charged but not delivering the service, gap between promised level of service and service that is delivered, overstating the service attributes and enticing the consumer, making false claims and so on.

Gap between service delivery and external communication is a consumer issue. Consumer expectations are affected by promises made by the service provider in his external communication which may be through brochures, advertisements, personal selling etc. E.g. If a resort hotel brochure shows a beautiful room but the guests arrive and find the room to be cheap and very ordinary. Many a times people make advance bookings based on the brochures or seeing the website or some other advertisements. In such bookings sometimes advance also has to be paid. If the customer does not like the room ambience he may be left with little choice since refunds are not given by many hotels.

Many private educational institutions assure jobs to students after completion of course which eventually does not happen. Which service-related consumer problem is depicted in this example ?

1. Excessive billings
2. Being charged but not delivering the service
3. Making false claims
4. Overstating the service attributes

Options :

485584146321. 1
 485584146322. 2
 485584146323. 3
 485584146324. 4

Question Number : 196 Question Id : 48558436581 Question Type : MCQ Option Shuffling : No Is Question Mandatory : No Calculator : None Response Time : N.A Think Time : N.A Minimum Instruction Time : 0

Correct Marks : 5 Wrong Marks : 1

Question Key Details :

| Key | Value |
|---------------|-------|
| Comprehension | Comp2 |

ভোক্তারা শুধুমাত্র পণ্য ক্রয় করে না বরং সেই সমস্ত ব্যাংকের অন্যান্য আর্থিক সংস্থা, এয়ারলাইন্স এবং ট্রাভেল এজেন্সি, হাসপাতাল এবং অন্যান্য চিকিৎসা অনুশীলনকারী, জনগণের ব্যবহার্য যেমন ময়লা সংগ্রহ, পরিষ্কার পরিচ্ছন্ন এবং সড়কের রক্ষণাবেক্ষণ, উদ্যান ইত্যাদি বৈদ্যুতি জল টেলিফোন, ডাক এবং টেলিগ্রাফ, শিক্ষা প্রতিষ্ঠান এবং অন্যান্য।

ভোক্তারা এই পরিষেবাগুলির বিষয়ে অনেক সমস্যার সম্মুখীন হয় যেমন অত্যধিক বিল, মূল্য দেওয়া হয়েছে কিন্তু সেবা প্রদান করা হচ্ছে না। প্রতিশ্রুতি ও পরিষেবার মধ্যে তফাৎ এবং যে সেবা প্রদান করেছে পরিষেবার বৈশিষ্ট্যগুলিকে বাড়াচ্ছে এবং ভোক্তাদের প্রলুব্ধ করছে, মিথ্যা প্রতিশ্রুতির দিয়ে এবং অন্যান্য পরিষেবা সরবরাহ এবং বাহ্যিক যোগাযোগের মধ্যে পার্থক্য একটি ক্রেতা / ভোক্তা সমস্যা। ভোক্তাদের প্রত্যাশা তার বাহ্যিক কথোপকথন পরিষেবা প্রদানকারীর দ্বারা প্রদত্ত প্রতিশ্রুতি দ্বারা প্রভাবিত হয় যা ক্ষুদ্রপুস্তিকা (ব্রোশার), বিজ্ঞাপন, ব্যক্তিগত বিক্রয় ইত্যাদি যদি রিশর্ট, হোটেল ব্রোশার এ সুন্দর কক্ষ দেখায়, কিন্তু অতিথিরা পৌঁছে এবং খুব সাধারণ ও সস্তার কক্ষ খুঁজে পান। অনেক সময় মানুষজন ব্রোশার ও ওয়েবসাইট দেখে বা অন্যরা বিজ্ঞাপন দেখে অগ্রিম কক্ষ বুক করেন। আবার কিছু ক্ষেত্রে অগ্রিম টাকা দিয়ে দেওয়া হয়। যদি গ্রাহক ঘরের পরিবেশ পছন্দ না করেন তবে তার কাছে খুব কম বিকল্প থাকতে পারে কারণ অনেক হোটেল ফেরত দেয় না।

অসংখ্য প্রাইভেট শিক্ষা প্রতিষ্ঠান ছাত্রদেরকে কোর্স শেষ করার সাথে নিশ্চিত চাকুরীর প্রতিশ্রুতি দিয়ে থাকেন যা অবশেষে হয় না। কোন পরিষেবা সম্পর্কিত ভোক্তা সমস্যা এই উদাহরণে চিত্রিত করা হয়েছে ?

1. অত্যধিক বিলিং
2. মূল্য দেওয়া হলেও পরিষেবা প্রদান করা হয় না
3. মিথ্যা প্রতিশ্রুতির শিকার
4. পরিষেবার গুণাবলী বাড়িয়ে বলা

Options :

485584146321. 1
485584146322. 2
485584146323. 3
485584146324. 4

Question Number : 197 Question Id : 48558436582 Question Type : MCQ Option Shuffling : No Is Question Mandatory : No Calculator : None Response Time : N.A Think Time : N.A Minimum Instruction Time : 0

Correct Marks : 5 Wrong Marks : 1

Question Key Details :

| Key | Value |
|---------------|-------|
| Comprehension | Comp2 |

Read the passage carefully. Attempt Question

Consumers not only purchase products but a whole gamut of services like those of banks, other financial institutions, airlines and travel agencies; hospitals and other medical practitioners; public utilities like garbage collection, cleanliness and maintenance of roads, parks, etc; electricity water telephone, post and telegraph; educational institutions and so on.

Consumers face a number of problems with regard to these services like excessive billing, being charged but not delivering the service, gap between promised level of service and service that is delivered, overstating the service attributes and enticing the consumer, making false claims and so on.

Gap between service delivery and external communication is a consumer issue. Consumer expectations are affected by promises made by the service provider in his external communication which may be through brochures, advertisements, personal selling etc. E.g. If a resort hotel brochure shows a beautiful room but the guests arrive and find the room to be cheap and very ordinary. Many a times people make advance bookings based on the brochures or seeing the website or some other advertisements. In such bookings sometimes advance also has to be paid. If the customer does not like the room ambience he may be left with little choice since refunds are not given by many hotels.

Which of the following is NOT an example of services offered to consumers ?

1. Consumer durables
2. Banking services
3. Airlines
4. Educational institutions

Options :

- 485584146325. 1
- 485584146326. 2
- 485584146327. 3
- 485584146328. 4

Question Number : 197 Question Id : 48558436582 Question Type : MCQ Option Shuffling : No Is Question Mandatory : No Calculator : None Response Time : N.A Think Time : N.A Minimum Instruction Time : 0

Correct Marks : 5 Wrong Marks : 1

Question Key Details :

| Key | Value |
|---------------|-------|
| Comprehension | Comp2 |

ভোক্তারা শুধুমাত্র পণ্য ক্রয় করে না বরং সেই সমস্ত ব্যাংকের অন্যান্য আর্থিক সংস্থা, এয়ারলাইন্স এবং ট্রাভেল এজেন্সি, হাসপাতাল এবং অন্যান্য চিকিৎসা অনুশীলনকারী, জনগণের ব্যবহার্য যেমন ময়লা সংগ্রহ, পরিষ্কার পরিচ্ছন্ন এবং সড়কের রক্ষণাবেক্ষণ, উদ্যান ইত্যাদি বৈদ্যুতি জল টেলিফোন, ডাক এবং টেলিগ্রাফ, শিক্ষা প্রতিষ্ঠান এবং অন্যান্য।

ভোক্তারা এই পরিষেবাগুলির বিষয়ে অনেক সমস্যার সম্মুখীন হয় যেমন অত্যধিক বিল, মূল্য দেওয়া হয়েছে কিন্তু সেবা প্রদান করা হচ্ছে না। প্রতিশ্রুতি ও পরিষেবার মধ্যে তফাৎ এবং যে সেবা প্রদান করেছে পরিষেবার বৈশিষ্ট্যগুলিকে বাড়াচ্ছে এবং ভোক্তাদের প্রলুব্ধ করছে, মিথ্যা প্রতিশ্রুতির দিয়ে এবং অন্যান্য পরিষেবা সরবরাহ এবং বাহ্যিক যোগাযোগের মধ্যে পার্থক্য একটি ক্রেতা / ভোক্তা সমস্যা। ভোক্তাদের প্রত্যাশা তার বাহ্যিক কথোপকথন পরিষেবা প্রদানকারীর দ্বারা প্রদত্ত প্রতিশ্রুতি দ্বারা প্রভাবিত হয় যা ক্ষুদ্রপুস্তিকা (ব্রোশার), বিজ্ঞাপন, ব্যক্তিগত বিক্রয় ইত্যাদি যদি রিশর্ট, হোটেল ব্রোশার এ সুন্দর কক্ষ দেখায়, কিন্তু অতিথিরা পৌঁছে এবং খুব সাধারণ ও সস্তার কক্ষ খুঁজে পান। অনেক সময় মানুষজন ব্রোশার ও ওয়েবসাইট দেখে বা অন্যরা বিজ্ঞাপন দেখে অগ্রিম কক্ষ বুক করেন। আবার কিছু ক্ষেত্রে অগ্রিম টাকা দিয়ে দেওয়া হয়। যদি গ্রাহক ঘরের পরিবেশ পছন্দ না করেন তবে তার কাছে খুব কম বিকল্প থাকতে পারে কারণ অনেক হোটেল ফেরত দেয় না।

উপভোক্তাদের কিরূপ পরিষেবা প্রদান করা হয় তার উদাহরণ কোনগুলি ?

- A. ব্যাংকিং পরিষেবা
- B. বিশ্বস্ত ক্রেতা
- C. এয়ারলাইন্স
- D. শিক্ষা প্রতিষ্ঠান
- E. ভোগ্য

সঠিক উত্তর বেছে নিয়ে লেখ:

1. কেবলমাত্র A, C এবং D
2. কেবলমাত্র B, C এবং D
3. কেবলমাত্র B, D এবং E
4. কেবলমাত্র A, B এবং C

Options :

- 485584146325. 1
- 485584146326. 2
- 485584146327. 3
- 485584146328. 4

Question Number : 198 Question Id : 48558436583 Question Type : MCQ Option Shuffling : No Is Question Mandatory : No Calculator : None Response Time : N.A Think Time : N.A Minimum Instruction Time : 0

Correct Marks : 5 Wrong Marks : 1

Question Key Details :

| Key | Value |
|---------------|-------|
| Comprehension | Comp2 |

Read the passage carefully. Attempt Question

Consumers not only purchase products but a whole gamut of services like those of banks, other financial institutions, airlines and travel agencies; hospitals and other medical practitioners; public utilities like garbage collection, cleanliness and maintenance of roads, parks, etc; electricity water telephone, post and telegraph; educational institutions and so on.

Consumers face a number of problems with regard to these services like excessive billing, being charged but not delivering the service, gap between promised level of service and service that is delivered, overstating the service attributes and enticing the consumer, making false claims and so on.

Gap between service delivery and external communication is a consumer issue. Consumer expectations are affected by promises made by the service provider in his external communication which may be through brochures, advertisements, personal selling etc. E.g. If a resort hotel brochure shows a beautiful room but the guests arrive and find the room to be cheap and very ordinary. Many a times people make advance bookings based on the brochures or seeing the website or some other advertisements. In such bookings sometimes advance also has to be paid. If the customer does not like the room ambience he may be left with little choice since refunds are not given by many hotels.

Many a times, we are required to pay a basic telephone rental charge irrespective of it being out of order. Which service related to consumer problem is depicted in this example?

1. Excessive billing
2. Being charged but not delivering the service
3. Making false claims
4. Overstating the service attributes

Options :

- 485584146329. 1
- 485584146330. 2
- 485584146331. 3
- 485584146332. 4

Question Number : 198 Question Id : 48558436583 Question Type : MCQ Option Shuffling : No Is Question Mandatory : No Calculator : None Response Time : N.A Think Time : N.A Minimum Instruction Time : 0

Correct Marks : 5 Wrong Marks : 1

Question Key Details :

| Key | Value |
|---------------|-------|
| Comprehension | Comp2 |

ভোক্তারা শুধুমাত্র পণ্য ক্রয় করে না বরং সেই সমস্ত ব্যাংকের অন্যান্য আর্থিক সংস্থা, এয়ারলাইন্স এবং ট্রাভেল এজেন্সি, হাসপাতাল এবং অন্যান্য চিকিৎসা অনুশীলনকারী, জনগণের ব্যবহার্য যেমন ময়লা সংগ্রহ, পরিষ্কার পরিচ্ছন্ন এবং সড়কের রক্ষণাবেক্ষণ, উদ্যান ইত্যাদি বৈদ্যুতি জল টেলিফোন, ডাক এবং টেলিগ্রাফ, শিক্ষা প্রতিষ্ঠান এবং অন্যান্য।

ভোক্তারা এই পরিষেবাগুলির বিষয়ে অনেক সমস্যার সম্মুখীন হয় যেমন অত্যধিক বিল, মূল্য দেওয়া হয়েছে কিন্তু সেবা প্রদান করা হচ্ছে না। প্রতিশ্রুতি ও পরিষেবার মধ্যে তফাৎ এবং যে সেবা প্রদান করেছে পরিষেবার বৈশিষ্ট্যগুলিকে বাড়াচ্ছে এবং ভোক্তাদের প্রলুব্ধ করেছে, মিথ্যা প্রতিশ্রুতির দিয়ে এবং অন্যান্য পরিষেবা সরবরাহ এবং বাহ্যিক যোগাযোগের মধ্যে পার্থক্য একটি ক্রেতা / ভোক্তা সমস্যা। ভোক্তাদের প্রত্যাশা তার বাহ্যিক কথোপকথন পরিষেবা প্রদানকারীর দ্বারা প্রদত্ত প্রতিশ্রুতি দ্বারা প্রভাবিত হয় যা ক্ষুদ্রপুস্তিকা (ব্রোশার), বিজ্ঞাপন, ব্যক্তিগত বিক্রয় ইত্যাদি যদি রিশর্ট, হোটেল ব্রোশার এ সুন্দর কক্ষ দেখায়, কিন্তু অতিথিরা পৌঁছে এবং খুব সাধারণ ও সস্তার কক্ষ খুঁজে পান। অনেক সময় মানুষজন ব্রোশার ও ওয়েবসাইট দেখে বা অন্যরা বিজ্ঞাপন দেখে অগ্রিম কক্ষ বুক করেন। আবার কিছু ক্ষেত্রে অগ্রিম টাকা দিয়ে দেওয়া হয়। যদি গ্রাহক ঘরের পরিবেশ পছন্দ না করেন তবে তার কাছে খুব কম বিকল্প থাকতে পারে কারণ অনেক হোটেল ফেরত দেয় না।

অনেক সময় আমাদের একটি বেসিক বা সাধারণ টেলিফোন চার্জ দিতে হয় তা নির্বিশেষে অর্ডারের বাইরে, কোন পরিষেবা সম্পর্কিত ভোক্তা সমস্যা এই উদাহরণে চিত্রিত করা হয়েছে

1. অত্যধিক বিলিং
2. চার্জ দেওয়া হয়েছে কিন্তু পরিষেবা প্রদান করা হল না
3. মিথ্যা প্রতিশ্রুতি
4. পরিষেবার গুণাবলী বাড়িয়ে ব্যক্ত করা

Options :

485584146329. 1
485584146330. 2
485584146331. 3
485584146332. 4

Question Number : 199 Question Id : 48558436584 Question Type : MCQ Option Shuffling : No Is Question Mandatory : No Calculator : None Response Time : N.A Think Time : N.A Minimum Instruction Time : 0

Correct Marks : 5 Wrong Marks : 1

Question Key Details :

| Key | Value |
|---------------|-------|
| Comprehension | Comp2 |

Read the passage carefully. Attempt Question

Consumers not only purchase products but a whole gamut of services like those of banks, other financial institutions, airlines and travel agencies; hospitals and other medical practitioners; public utilities like garbage collection, cleanliness and maintenance of roads, parks, etc; electricity water telephone, post and telegraph; educational institutions and so on.

Consumers face a number of problems with regard to these services like excessive billing, being charged but not delivering the service, gap between promised level of service and service that is delivered, overstating the service attributes and enticing the consumer, making false claims and so on.

Gap between service delivery and external communication is a consumer issue. Consumer expectations are affected by promises made by the service provider in his external communication which may be through brochures, advertisements, personal selling etc. E.g. If a resort hotel brochure shows a beautiful room but the guests arrive and find the room to be cheap and very ordinary. Many a times people make advance bookings based on the brochures or seeing the website or some other advertisements. In such bookings sometimes advance also has to be paid. If the customer does not like the room ambience he may be left with little choice since refunds are not given by many hotels.

Which of the following is NOT an example of aid used by service providers for external communication ?

1. Brochures
2. Board meeting
3. Advertisements
4. Personal selling

Options :

- 485584146333. 1
- 485584146334. 2
- 485584146335. 3
- 485584146336. 4

Question Number : 199 Question Id : 48558436584 Question Type : MCQ Option Shuffling : No Is Question Mandatory : No Calculator : None Response Time : N.A Think Time : N.A Minimum Instruction Time : 0

Correct Marks : 5 Wrong Marks : 1

Question Key Details :

| Key | Value |
|---------------|-------|
| Comprehension | Comp2 |

ভোক্তারা শুধুমাত্র পণ্য ক্রয় করে না বরং সেই সমস্ত ব্যাংকের অন্যান্য আর্থিক সংস্থা, এয়ারলাইন্স এবং ট্রাভেল এজেন্সি, হাসপাতাল এবং অন্যান্য চিকিৎসা অনুশীলনকারী, জনগণের ব্যবহার্য যেমন ময়লা সংগ্রহ, পরিষ্কার পরিচ্ছন্ন এবং সড়কের রক্ষণাবেক্ষণ, উদ্যান ইত্যাদি বৈদ্যুতি জল টেলিফোন, ডাক এবং টেলিগ্রাফ, শিক্ষা প্রতিষ্ঠান এবং অন্যান্য।

ভোক্তারা এই পরিষেবাগুলির বিষয়ে অনেক সমস্যার সম্মুখীন হয় যেমন অত্যধিক বিল, মূল্য দেওয়া হয়েছে কিন্তু সেবা প্রদান করা হচ্ছে না। প্রতিশ্রুতি ও পরিষেবার মধ্যে তফাৎ এবং যে সেবা প্রদান করেছে পরিষেবার বৈশিষ্ট্যগুলিকে বাড়াচ্ছে এবং ভোক্তাদের প্রলুব্ধ করছে, মিথ্যা প্রতিশ্রুতির দিয়ে এবং অন্যান্য পরিষেবা সরবরাহ এবং বাহ্যিক যোগাযোগের মধ্যে পার্থক্য একটি ক্রেতা / ভোক্তা সমস্যা। ভোক্তাদের প্রত্যাশা তার বাহ্যিক কথোপকথন পরিষেবা প্রদানকারীর দ্বারা প্রদত্ত প্রতিশ্রুতি দ্বারা প্রভাবিত হয় যা ক্ষুদ্রপুস্তিকা (ব্রোশার), বিজ্ঞাপন, ব্যক্তিগত বিক্রয় ইত্যাদি যদি রিশর্ট, হোটেল ব্রোশার এ সুন্দর কক্ষ দেখায়, কিন্তু অতিথিরা পৌঁছে এবং খুব সাধারণ ও সস্তার কক্ষ খুঁজে পান। অনেক সময় মানুষজন ব্রোশার ও ওয়েবসাইট দেখে বা অন্যরা বিজ্ঞাপন দেখে অগ্রিম কক্ষ বুক করেন। আবার কিছু ক্ষেত্রে অগ্রিম টাকা দিয়ে দেওয়া হয়। যদি গ্রাহক ঘরের পরিবেশ পছন্দ না করেন তবে তার কাছে খুব কম বিকল্প থাকতে পারে কারণ অনেক হোটেল ফেরত দেয় না।

নিম্নে বাহ্যিক যোগাযোগের জন্য পরিষেবা প্রদানকারীদের দ্বারা ব্যবহৃত সাহায্যের উদাহরণ দেওয়া হল

- A. বোর্ড মিটিং
- B. ব্রোশার
- C. বিজ্ঞাপন
- D. নিজস্ব বিক্রি
- E. সেল / ছাড়

সঠিক উত্তর বেছে নিয়ে লেখ:

- 1. কেবল A, C এবং D
- 2. কেবল B, C এবং D
- 3. কেবল B, D এবং E
- 4. কেবল A, B এবং C

Options :

- 485584146333. 1
- 485584146334. 2
- 485584146335. 3
- 485584146336. 4

Question Number : 200 Question Id : 48558436585 Question Type : MCQ Option Shuffling : No Is Question Mandatory : No Calculator : None Response Time : N.A Think Time : N.A Minimum Instruction Time : 0

Correct Marks : 5 Wrong Marks : 1

Question Key Details :

| Key | Value |
|---------------|-------|
| Comprehension | Comp2 |

Read the passage carefully. Attempt Question

Consumers not only purchase products but a whole gamut of services like those of banks, other financial institutions, airlines and travel agencies; hospitals and other medical practitioners; public utilities like garbage collection, cleanliness and maintenance of roads, parks, etc; electricity water telephone, post and telegraph; educational institutions and so on.

Consumers face a number of problems with regard to these services like excessive billing, being charged but not delivering the service, gap between promised level of service and service that is delivered, overstating the service attributes and enticing the consumer, making false claims and so on.

Gap between service delivery and external communication is a consumer issue. Consumer expectations are affected by promises made by the service provider in his external communication which may be through brochures, advertisements, personal selling etc. E.g. If a resort hotel brochure shows a beautiful room but the guests arrive and find the room to be cheap and very ordinary. Many a times people make advance bookings based on the brochures or seeing the website or some other advertisements. In such bookings sometimes advance also has to be paid. If the customer does not like the room ambience he may be left with little choice since refunds are not given by many hotels.

A family had gone on vacation for a month but received electricity bill for the same month running in several thousands. Which service related consumer problems is depicted in this case?

1. Excessive billing
2. Being charged but not delivering the service
3. Making false claims
4. Overstating the service attributes

Options :

- 485584146337. 1
- 485584146338. 2
- 485584146339. 3
- 485584146340. 4

Question Number : 200 Question Id : 48558436585 Question Type : MCQ Option Shuffling : No Is Question Mandatory : No Calculator : None Response Time : N.A Think Time : N.A Minimum Instruction Time : 0

Correct Marks : 5 Wrong Marks : 1

Question Key Details :

| Key | Value |
|---------------|-------|
| Comprehension | Comp2 |

ভোক্তারা শুধুমাত্র পণ্য ক্রয় করে না বরং সেই সমস্ত ব্যাংকের অন্যান্য আর্থিক সংস্থা, এয়ারলাইন্স এবং ট্রাভেল এজেন্সি, হাসপাতাল এবং অন্যান্য চিকিৎসা অনুশীলনকারী, জনগণের ব্যবহার্য যেমন ময়লা সংগ্রহ, পরিষ্কার পরিচ্ছন্ন এবং সড়কের রক্ষণাবেক্ষণ, উদ্যান ইত্যাদি বৈদ্যুতি জল টেলিফোন, ডাক এবং টেলিগ্রাফ, শিক্ষা প্রতিষ্ঠান এবং অন্যান্য।

ভোক্তারা এই পরিষেবাগুলির বিষয়ে অনেক সমস্যার সম্মুখীন হয় যেমন অত্যধিক বিল, মূল্য দেওয়া হয়েছে কিন্তু সেবা প্রদান করা হচ্ছে না। প্রতিশ্রুতি ও পরিষেবার মধ্যে তফাৎ এবং যে সেবা প্রদান করেছে পরিষেবার বৈশিষ্ট্যগুলিকে বাড়াচ্ছে এবং ভোক্তাদের প্রলুব্ধ করেছে, মিথ্যা প্রতিশ্রুতির দিয়ে এবং অন্যান্য পরিষেবা সরবরাহ এবং বাহ্যিক যোগাযোগের মধ্যে পার্থক্য একটি ক্রেতা / ভোক্তা সমস্যা। ভোক্তাদের প্রত্যাশা তার বাহ্যিক কথোপকথন পরিষেবা প্রদানকারীর দ্বারা প্রদত্ত প্রতিশ্রুতি দ্বারা প্রভাবিত হয় যা ক্ষুদ্রপুস্তিকা (ব্রোশার), বিজ্ঞাপন, ব্যক্তিগত বিক্রয় ইত্যাদি যদি রিশর্ট, হোটেল ব্রোশার এ সুন্দর কক্ষ দেখায়, কিন্তু অতিথিরা পৌঁছে এবং খুব সাধারণ ও সস্তার কক্ষ খুঁজে পান। অনেক সময় মানুষজন ব্রোশার ও ওয়েবসাইট দেখে বা অন্যরা বিজ্ঞাপন দেখে অগ্রিম কক্ষ বুক করেন। আবার কিছু ক্ষেত্রে অগ্রিম টাকা দিয়ে দেওয়া হয়। যদি গ্রাহক ঘরের পরিবেশ পছন্দ না করেন তবে তার কাছে খুব কম বিকল্প থাকতে পারে কারণ অনেক হোটেল ফেরত দেয় না।

একটি পরিবার ছুটি কাটাতে এক মাসের জন্য বাইরে গিয়েছিলেন কিন্তু সেই মাসের বৈদ্যুতিক বা ইলেকট্রিক বিল কিন্তু হাজার টাকার হয়েছে। এই উদাহরণের দ্বারা কিধরনের উপভোক্তা সমস্যাজনক পরিষেবার সম্মুখীন হয়েছেন-

1. অধিক বিল
2. চার্জ দেওয়া হয়েছে কিন্তু পরিষেবা প্রদান করা হল না
3. মিথ্যা প্রতিশ্রুতি
4. পরিষেবার গুণাবলী বাড়িয়ে ব্যাখ্যা করা

Options :

485584146337. 1
485584146338. 2
485584146339. 3
485584146340. 4

Teaching Aptitude

| | |
|-------------------------------|-----------|
| Group Number : | 6 |
| Group Id : | 485584826 |
| Group Maximum Duration : | 45 |
| Group Minimum Duration : | 45 |
| Show Attended Group? : | No |
| Edit Attended Group? : | No |
| Break time : | 0 |
| Group Marks : | 200 |
| Is this Group for Examiner? : | No |
| Examiner permission : | Cant View |
| Show Progress Bar? : | No |

Teaching Aptitude

| | |
|--|------------|
| Section Id : | 485584950 |
| Section Number : | 1 |
| Section type : | Online |
| Mandatory or Optional : | Mandatory |
| Number of Questions : | 50 |
| Number of Questions to be attempted : | 40 |
| Section Marks : | 200 |
| Enable Mark as Answered Mark for Review and Clear Response : | Yes |
| Maximum Instruction Time : | 0 |
| Sub-Section Number : | 1 |
| Sub-Section Id : | 4855842702 |
| Question Shuffling Allowed : | Yes |
| Is Section Default? : | null |

Question Number : 201 Question Id : 48558436586 Question Type : MCQ Option Shuffling : No Is Question Mandatory : No Calculator : None Response Time : N.A Think Time : N.A Minimum Instruction Time : 0

Correct Marks : 5 Wrong Marks : 1

Question Key Details :

| Key | Value |
|---------------|-------|
| Comprehension | MCQ |

Match List I with List II

| LIST I Dance | | LIST II Artists | |
|-----------------|---------------|--------------------|----------------------|
| A. | Bharatnatyarn | I. | Savita Mehta |
| B. | Odissi | II. | Sitara Devi |
| C. | Kathak | III. | Yamini Krishnamurthy |
| D. | Manipuri | IV. | Sanjukta Panigrahi |

Choose the correct answer from the options given below:

1. A-III, B-IV, C-II, D-I
2. A-III, B-II, C-IV, D-I
3. A-II, B-IV, C-III, D-I
4. A-II, B-I, C-IV, D-III

Options :

485584146341. 1
485584146342. 2
485584146343. 3
485584146344. 4

Question Number : 201 Question Id : 48558436586 Question Type : MCQ Option Shuffling : No Is Question Mandatory : No Calculator : None Response Time : N.A Think Time : N.A Minimum Instruction Time : 0

Correct Marks : 5 Wrong Marks : 1

Question Key Details :

| Key | Value |
|---------------|-------|
| Comprehension | MCQ |

নীচের তালিকা দুটি মেলাও

| তালিকা I নৃত্য | | তালিকা II শিল্পী | |
|-------------------|------------|---------------------|---------------------|
| A | ভারতনাট্যম | I | সবিতা মেহতা |
| B | গুডিস | II | সিতারা দেবী |
| C | কথক | III | ধামিনী কৃষ্ণমূর্তী |
| D | মাণপুরি | IV | সংযুক্তা পানিগ্রাহী |

নিম্নে প্রদত্ত পছন্দগুলি থেকে সঠিক উত্তর বেছে নাও:

1. A-III, B-IV, C-II, D-I
2. A-III, B-II, C-IV, D-I
3. A-II, B-IV, C-III, D-I
4. A-II, B-I, C-IV, D-III

Options :

485584146341. 1
485584146342. 2
485584146343. 3
485584146344. 4

Question Number : 202 Question Id : 48558436587 Question Type : MCQ Option Shuffling : No Is Question Mandatory : No Calculator : None Response Time : N.A Think Time : N.A Minimum Instruction Time : 0

Correct Marks : 5 Wrong Marks : 1

Question Key Details :

| Key | Value |
|---------------|-------|
| Comprehension | MCQ |

DD Gyan Darshan is an educational media initiative of Ministry of Education in collaboration with-

- A. Ministry of Information and Broadcasting
- B. Prasar Bharti
- C. ISRO
- D. IGNOU
- E. Ministry of Information and Communication Technology

Choose the correct answer from the options given below:

1. A, B and C only
2. A, C and D only
3. A, B, C and D only
4. B, C and E only

Options :

485584146345. 1
485584146346. 2

485584146347. 3
485584146348. 4

Question Number : 202 Question Id : 48558436587 Question Type : MCQ Option Shuffling : No Is Question Mandatory :
No Calculator : None Response Time : N.A Think Time : N.A Minimum Instruction Time : 0

Correct Marks : 5 Wrong Marks : 1

Question Key Details :

| Key | Value |
|---------------|-------|
| Comprehension | MCQ |

DD জ্ঞান দর্শন হল একটি শিক্ষামূলক মিডিয়া যা শিক্ষা মন্ত্রণালয়ের উদ্যোগে _____ এর সহায়তায়
চালু-

- A. তথ্য ও সম্প্রচার মন্ত্রক
- B. প্রসার ভারতী
- C. ইসরো (ISRO)
- D. ইগনু (IGNOU)
- E. তথ্য ও যোগাযোগ প্রযুক্তি মন্ত্রনালয়

নিম্নলিখিত পছন্দগুলির মধ্য থেকে সঠিক উত্তর বেছে নাও:

1. কেবলমাত্র A, B এবং C
2. কেবলমাত্র A, C এবং D
3. কেবলমাত্র A, B, C এবং D
4. কেবলমাত্র B, C এবং E

Options :

485584146345. 1
485584146346. 2
485584146347. 3
485584146348. 4

Question Number : 203 Question Id : 48558436588 Question Type : MCQ Option Shuffling : No Is Question Mandatory :
No Calculator : None Response Time : N.A Think Time : N.A Minimum Instruction Time : 0

Correct Marks : 5 Wrong Marks : 1

Question Key Details :

| Key | Value |
|---------------|-------|
| Comprehension | MCQ |

Match List I with List II

| LIST I | | LIST II | |
|--------|---------|---------|---|
| A. | Thappad | I. | Women's bodies and commercial gains |
| B. | Mimi | II. | Quality education for all |
| C. | Black | III. | Domestic violence and dignity |
| D. | Hichki | IV. | Right to a dignified life and knowledge |

Choose the correct answer from the options given below:

1. A-III, B-I, C-IV, D-II
2. A-I, B-III, C-IV, D-II
3. A-III, B-I, C-II, D-IV
4. A-III, B-II, C-IV, D-I

Options :

485584146349. 1
485584146350. 2
485584146351. 3
485584146352. 4

Question Number : 203 Question Id : 48558436588 Question Type : MCQ Option Shuffling : No Is Question Mandatory : No Calculator : None Response Time : N.A Think Time : N.A Minimum Instruction Time : 0

Correct Marks : 5 Wrong Marks : 1

Question Key Details :

| Key | Value |
|---------------|-------|
| Comprehension | MCQ |

নীচের তালিকা দুটি মেনাও

| তালিকা I | | তালিকা II | |
|----------|----------------|-----------|-------------------------------------|
| A. | থাপড (Thappad) | I. | নারীর দেহ ও বাণিজ্যিক লাভ |
| B. | মিমি (Mimi) | II. | সকলের জন্য গুণগত শিক্ষা |
| C. | কালো (Black) | III. | গার্ভস্থ্য হিংসাত্মক ঘটনা ও মর্ষাদা |
| D. | হিচকি (Hichki) | IV. | মর্ষাদাপূর্ণ জীবন ও জ্ঞানের অধিকার |

নীচের পছন্দগুলি থেকে সঠিক উত্তর বেছে নাও:

1. A-III, B-I, C-IV, D-II
2. A-I, B-III, C-IV, D-II
3. A-III, B-I, C-II, D-IV
4. A-III, B-II, C-IV, D-I

Options :

485584146349. 1
485584146350. 2
485584146351. 3

485584146352. 4

Question Number : 204 Question Id : 48558436589 Question Type : MCQ Option Shuffling : No Is Question Mandatory : No Calculator : None Response Time : N.A Think Time : N.A Minimum Instruction Time : 0

Correct Marks : 5 Wrong Marks : 1

Question Key Details :

| Key | Value |
|---------------|-------|
| Comprehension | MCQ |

In the story 'Idgah' the protagonist Hamid buys a _____ for _____ from the fair.

1. pair of tongs, his grandmother
2. pair of tongs, his mother
3. clay doll, himself
4. clay doll, his grandmother

Options :

485584146353. 1
485584146354. 2
485584146355. 3
485584146356. 4

Question Number : 204 Question Id : 48558436589 Question Type : MCQ Option Shuffling : No Is Question Mandatory : No Calculator : None Response Time : N.A Think Time : N.A Minimum Instruction Time : 0

Correct Marks : 5 Wrong Marks : 1

Question Key Details :

| Key | Value |
|---------------|-------|
| Comprehension | MCQ |

'ইদগা' গল্পে প্রধান চরিত্র হামিদ মেলা থেকে _____ কিনেছিল _____ জন্য

1. চিমটা জোড়, তার ঠাকুমা
2. চিমটা জোড়, তার মা
3. মাটির পুতুল, নিজের
4. মাটির পুতুল, তার ঠাকুমা

Options :

485584146353. 1
485584146354. 2
485584146355. 3
485584146356. 4

Question Number : 205 Question Id : 48558436590 Question Type : MCQ Option Shuffling : No Is Question Mandatory : No Calculator : None Response Time : N.A Think Time : N.A Minimum Instruction Time : 0

Correct Marks : 5 Wrong Marks : 1

Question Key Details :

| Key | Value |
|---------------|-------|
| Comprehension | MCQ |

Who is the first female Indian scientist to receive a PhD degree in a scientific discipline?

1. Kamala Sohonie
2. Janaki Ammal
3. Anandibai Gopalrao Joshi
4. Asima Chaterjee

Options :

485584146357. 1
485584146358. 2
485584146359. 3
485584146360. 4

Question Number : 205 Question Id : 48558436590 Question Type : MCQ Option Shuffling : No Is Question Mandatory : No Calculator : None Response Time : N.A Think Time : N.A Minimum Instruction Time : 0

Correct Marks : 5 Wrong Marks : 1

Question Key Details :

| Key | Value |
|---------------|-------|
| Comprehension | MCQ |

সর্বপ্রথম কোন ভারতীয় মহিলা বিজ্ঞানী, বিজ্ঞান বিভাগে পি.এইচ.ডি অর্জন করেছিলেন?

1. কমলা সোহনি
2. জানকী আম্মাল
3. আনন্দীবাই গোপালরাও জোশী
4. অসীমা চ্যাটার্জী

Options :

485584146357. 1
485584146358. 2
485584146359. 3
485584146360. 4

Question Number : 206 Question Id : 48558436591 Question Type : MCQ Option Shuffling : No Is Question Mandatory : No Calculator : None Response Time : N.A Think Time : N.A Minimum Instruction Time : 0

Correct Marks : 5 Wrong Marks : 1

Question Key Details :

| Key | Value |
|---------------|-------|
| Comprehension | MCQ |

In the film, 'Chak De India', which of the following themes was not addressed?

1. National integration
2. Child labour
3. Women Empowerment
4. Religious Harmony

Options :

485584146361. 1
485584146362. 2
485584146363. 3
485584146364. 4

Question Number : 206 Question Id : 48558436591 Question Type : MCQ Option Shuffling : No Is Question Mandatory : No Calculator : None Response Time : N.A Think Time : N.A Minimum Instruction Time : 0

Correct Marks : 5 Wrong Marks : 1

Question Key Details :

| Key | Value |
|---------------|-------|
| Comprehension | MCQ |

'চাক দে ইন্ডিয়া' ফিল্মে নিম্নলিখিতগুলির মধ্যে কোন বিষয়টি তুলে ধরা হয়েছে?

1. জাতীয় সংহতি
2. শিশু শ্রমিক
3. নারীর ক্ষমতায়ন
4. ধর্মীয় সংহতি

Options :

485584146361. 1
485584146362. 2
485584146363. 3
485584146364. 4

Question Number : 207 Question Id : 48558436592 Question Type : MCQ Option Shuffling : No Is Question Mandatory : No Calculator : None Response Time : N.A Think Time : N.A Minimum Instruction Time : 0

Correct Marks : 5 Wrong Marks : 1

Question Key Details :

| Key | Value |
|---------------|-------|
| Comprehension | MCQ |

The stories by Premchand primarily deal with:

- A. Challenges faced by children
- B. issues related to women
- C. struggles of the professional class
- D. struggles of the rural poor
- E. the character of villages in medieval India

Choose the most appropriate answer from the options given below:

- 1. B, C and E only
- 2. D, A and E only
- 3. C, D and A only
- 4. A, B and D only

Options :

- 485584146365. 1
- 485584146366. 2
- 485584146367. 3
- 485584146368. 4

Question Number : 207 Question Id : 48558436592 Question Type : MCQ Option Shuffling : No Is Question Mandatory : No Calculator : None Response Time : N.A Think Time : N.A Minimum Instruction Time : 0

Correct Marks : 5 Wrong Marks : 1

Question Key Details :

| Key | Value |
|---------------|-------|
| Comprehension | MCQ |

প্রেমচাঁদের গল্পগুলিতে মূলত কোন বিষয় তুলে ধরা হয়:

- A. শিশুরা যে চ্যালেঞ্জের মুখোমুখি হয়
- B. নারীদের সম্পর্কিত সমস্যা
- C. পেশাদার শ্রেণীর সংগ্রাম
- D. গ্রামীণ দরিদ্র মানুষের সংগ্রাম
- E. মধ্যযুগীয় ভারতে গ্রামের চরিত্র

নীচের পছন্দগুলি থেকে, সর্বাপেক্ষা নিকটতম উত্তরটি বেছে নাও:

- 1. কেবলমাত্র B, C এবং E
- 2. কেবলমাত্র D, A এবং E
- 3. কেবলমাত্র C, D এবং A
- 4. কেবলমাত্র A, B এবং D

Options :

- 485584146365. 1
- 485584146366. 2

485584146367. 3

485584146368. 4

Question Number : 208 Question Id : 48558436593 Question Type : MCQ Option Shuffling : No Is Question Mandatory : No Calculator : None Response Time : N.A Think Time : N.A Minimum Instruction Time : 0

Correct Marks : 5 Wrong Marks : 1

Question Key Details :

| Key | Value |
|---------------|-------|
| Comprehension | MCQ |

The central theme of the Hindi film, 'Dangal' is:

1. Urban-rural social divide in the state of Haryana
2. Women in a male- dominated sport
3. Relationship between siblings
4. Mother - daughter relationship

Options :

485584146369. 1

485584146370. 2

485584146371. 3

485584146372. 4

Question Number : 208 Question Id : 48558436593 Question Type : MCQ Option Shuffling : No Is Question Mandatory : No Calculator : None Response Time : N.A Think Time : N.A Minimum Instruction Time : 0

Correct Marks : 5 Wrong Marks : 1

Question Key Details :

| Key | Value |
|---------------|-------|
| Comprehension | MCQ |

হিন্দী ফিল্ম 'ডাঙ্গল'এ কেন্দ্রীয় বিষয়বস্তু (Theme) কি ?

1. হরিয়ানা রাজ্যে শহর-গ্রামীণ সমাজের বিভাজন
2. পুরুষ প্রাধান্য একটি খেলায় নারী
3. ভাইবোনের মধ্যে সম্পর্ক
4. মা ও কন্যার সম্পর্ক

Options :

485584146369. 1

485584146370. 2

485584146371. 3

485584146372. 4

Question Number : 209 Question Id : 48558436594 Question Type : MCQ Option Shuffling : No Is Question Mandatory : No Calculator : None Response Time : N.A Think Time : N.A Minimum Instruction Time : 0

Correct Marks : 5 Wrong Marks : 1

Question Key Details :

| Key | Value |
|---------------|-------|
| Comprehension | MCQ |

Tagore's alternate school 'Shantiniketan' did NOT promote:

1. Open classrooms
2. Simplicity of the learning process
3. Teaching in the mother tongue
4. Discipline in children

Options :

485584146373. 1
485584146374. 2
485584146375. 3
485584146376. 4

Question Number : 209 Question Id : 48558436594 Question Type : MCQ Option Shuffling : No Is Question Mandatory : No Calculator : None Response Time : N.A Think Time : N.A Minimum Instruction Time : 0

Correct Marks : 5 Wrong Marks : 1

Question Key Details :

| Key | Value |
|---------------|-------|
| Comprehension | MCQ |

রবীন্দ্রনাথ ঠাকুরের বিকল্প স্কুল 'শান্তিনিকেতন' প্রচার করেনি :-

1. উন্মুক্ত শ্রেণীকক্ষ
2. সহজ শিখন প্রক্রিয়া
3. মাতৃভাষায় শিক্ষা
4. শিশুদের মধ্যে শৃঙ্খলা

Options :

485584146373. 1
485584146374. 2
485584146375. 3
485584146376. 4

Question Number : 210 Question Id : 48558436595 Question Type : MCQ Option Shuffling : No Is Question Mandatory : No Calculator : None Response Time : N.A Think Time : N.A Minimum Instruction Time : 0

Correct Marks : 5 Wrong Marks : 1

Question Key Details :

| Key | Value |
|---------------|-------|
| Comprehension | MCQ |

Which of the following is not a Children's novel?

1. Ahimsa
2. Charlie and the Chocolate Factory
3. A Thousand Splendid Suns
4. Wonder

Options :

485584146377. 1
485584146378. 2
485584146379. 3
485584146380. 4

Question Number : 210 Question Id : 48558436595 Question Type : MCQ Option Shuffling : No Is Question Mandatory : No Calculator : None Response Time : N.A Think Time : N.A Minimum Instruction Time : 0

Correct Marks : 5 Wrong Marks : 1

Question Key Details :

| Key | Value |
|---------------|-------|
| Comprehension | MCQ |

নিম্নলিখিতদের মধ্যে কোনটি শিশুদের উপন্যাস নয় ?

1. Ahimsa (অহিংসা)
2. Charlie and the Chocolate Factory (চার্লি ও চকোলেট ফ্যাক্টরী)
3. A Thousand Splendid Suns (এ থাউজেন্ড স্পেন্ডিড সানস)
4. Wonder (ওয়ান্ডার)

Options :

485584146377. 1
485584146378. 2
485584146379. 3
485584146380. 4

Question Number : 211 Question Id : 48558436596 Question Type : MCQ Option Shuffling : No Is Question Mandatory : No Calculator : None Response Time : N.A Think Time : N.A Minimum Instruction Time : 0

Correct Marks : 5 Wrong Marks : 1

Question Key Details :

| Key | Value |
|---------------|-------|
| Comprehension | MCQ |

Which among the following are 'Pros' of 5G Technology?

- A. Greater Transmission Speed
- B. Overcrowded Radio frequency
- C. Increased connectivity
- D. Wider Coverage
- E. High Energy consumption

Choose the correct answer from the options given below:

1. B, C and E only
2. A, C and D only
3. B, C and D only
4. A, C and E only

Options :

- 485584146381. 1
- 485584146382. 2
- 485584146383. 3
- 485584146384. 4

Question Number : 211 Question Id : 48558436596 Question Type : MCQ Option Shuffling : No Is Question Mandatory : No Calculator : None Response Time : N.A Think Time : N.A Minimum Instruction Time : 0

Correct Marks : 5 Wrong Marks : 1

Question Key Details :

| Key | Value |
|---------------|-------|
| Comprehension | MCQ |

নিম্নলিখিতগুলির মধ্যে কোনটি 5-জি প্রযুক্তির পেশাদারীত্ব (Pros)?

- A. বৃহত্তর সঞ্চারণ গতি
- B. অত্যধিক ভারাক্রান্ত রেডিও ফ্রিকোয়েন্সি
- C. বর্ধিত সংযোগ
- D. ব্যাপক সংযোগ
- E. অত্যধিক শক্তি ব্যয়

নিম্নলিখিত পছন্দগুলির মধ্যে থেকে সঠিক উত্তর বেছে নাও:

1. কেবলমাত্র B, C এবং E
2. কেবলমাত্র A, C এবং D
3. কেবলমাত্র B, C এবং D
4. কেবলমাত্র A, C এবং E

Options :

- 485584146381. 1
- 485584146382. 2

485584146383. 3
485584146384. 4

Question Number : 212 Question Id : 48558436597 Question Type : MCQ Option Shuffling : No Is Question Mandatory : No Calculator : None Response Time : N.A Think Time : N.A Minimum Instruction Time : 0

Correct Marks : 5 Wrong Marks : 1

Question Key Details :

| Key | Value |
|---------------|-------|
| Comprehension | MCQ |

The Deep web on internet which is not accessible by the regular search engines like Google Bing is known as:

1. Black web
2. Brown web
3. Dirty web
4. Dark web

Options :

485584146385. 1
485584146386. 2
485584146387. 3
485584146388. 4

Question Number : 212 Question Id : 48558436597 Question Type : MCQ Option Shuffling : No Is Question Mandatory : No Calculator : None Response Time : N.A Think Time : N.A Minimum Instruction Time : 0

Correct Marks : 5 Wrong Marks : 1

Question Key Details :

| Key | Value |
|---------------|-------|
| Comprehension | MCQ |

ইন্টারনেট 'ডিপ ওয়েব' যা গুগল বিং এর মতো নিয়মিত সার্চ ইঞ্জিন দ্বারা অ্যাক্সেস করা যায় না, তা _____ নামে পরিচিত।

1. Black web
2. Brown web
3. Dirty web
4. Dark web

Options :

485584146385. 1
485584146386. 2
485584146387. 3
485584146388. 4

Question Number : 213 Question Id : 48558436598 Question Type : MCQ Option Shuffling : No Is Question Mandatory : No Calculator : None Response Time : N.A Think Time : N.A Minimum Instruction Time : 0

Correct Marks : 5 Wrong Marks : 1

Question Key Details :

| Key | Value |
|---------------|-------|
| Comprehension | MCQ |

In order to foster scientific temper through the means of exciting educational experiences, a teacher can take her students to a:

1. Museum
2. Music program
3. Planetarium
4. Art gallery

Options :

485584146389. 1
485584146390. 2
485584146391. 3
485584146392. 4

Question Number : 213 Question Id : 48558436598 Question Type : MCQ Option Shuffling : No Is Question Mandatory : No Calculator : None Response Time : N.A Think Time : N.A Minimum Instruction Time : 0

Correct Marks : 5 Wrong Marks : 1

Question Key Details :

| Key | Value |
|---------------|-------|
| Comprehension | MCQ |

উত্তেজনাপূর্ণ শিক্ষাগত অভিজ্ঞতার মাধ্যমে একজন শিক্ষক তার ছাত্রদের _____ এ নিয়ে যেতে পারেন:-

1. মিউজিয়াম
2. গানের প্রোগ্রাম
3. প্ল্যানেটারিয়াম
4. আর্ট গ্যালারী

Options :

485584146389. 1
485584146390. 2
485584146391. 3
485584146392. 4

Question Number : 214 Question Id : 48558436599 Question Type : MCQ Option Shuffling : No Is Question Mandatory : No Calculator : None Response Time : N.A Think Time : N.A Minimum Instruction Time : 0

Correct Marks : 5 Wrong Marks : 1

Question Key Details :

| Key | Value |
|---------------|-------|
| Comprehension | MCQ |

Jantar Mantar is an assembly of stone-built astronomical instruments, designed to be used with naked eyes. A visit to Jantar Mantar can help students to learn how _____.

1. astronomy was a leisure activity of people in the past.
2. astronomy was practised in buildings made with red stones.
3. people measured time when there were no standard instruments to measure the passing of time.
4. people measured time in those civilizations in which stones were used to build everything.

Options :

485584146393. 1
485584146394. 2
485584146395. 3
485584146396. 4

Question Number : 214 Question Id : 48558436599 Question Type : MCQ Option Shuffling : No Is Question Mandatory : No Calculator : None Response Time : N.A Think Time : N.A Minimum Instruction Time : 0

Correct Marks : 5 Wrong Marks : 1

Question Key Details :

| Key | Value |
|---------------|-------|
| Comprehension | MCQ |

যন্ত্র-মন্ত্র হল পাথরের তৈরি জ্যোতির্বিদ্যার যন্ত্রের সমাবেশ, যা খালি চোখে ব্যবহার করার জন্য ডিজাইন করা হয়েছে। যন্ত্র-মন্ত্রে পরিদর্শন ছাত্রদের সাহায্য করে, কেমন কার _____

1. জ্যোতির্বিদ্যা অতীতে মানুষের একটি অবসরকালীন কার্যকলাপ ছিল
2. জ্যোতির্বিদ্যা লাল পাথর দিয়ে তৈরি বিন্দিংগুলিতে অনুশীলন করা হয়েছিল
3. যখন সময় অতিবাহিত হওয়া পরিমাপ করার জন্য আদর্শ যন্ত্র ছিল না, তখন সময় পরিমাপ করতে
4. যে সকল সভ্যতায় সমস্ত কিছু পাথর দ্বারা নির্মিত হতো সেই সময় সময়ের পরিমাপ করা হতো

Options :

485584146393. 1
485584146394. 2
485584146395. 3
485584146396. 4

Question Number : 215 Question Id : 48558436600 Question Type : MCQ Option Shuffling : No Is Question Mandatory : No Calculator : None Response Time : N.A Think Time : N.A Minimum Instruction Time : 0

Correct Marks : 5 Wrong Marks : 1

Question Key Details :

| Key | Value |
|---------------|-------|
| Comprehension | MCQ |

The first country to have entered the Mars orbit in its first attempt is:

1. USA
2. China
3. India
4. Russia

Options :

485584146397. 1
485584146398. 2
485584146399. 3
485584146400. 4

Question Number : 215 Question Id : 48558436600 Question Type : MCQ Option Shuffling : No Is Question Mandatory : No Calculator : None Response Time : N.A Think Time : N.A Minimum Instruction Time : 0

Correct Marks : 5 Wrong Marks : 1

Question Key Details :

| Key | Value |
|---------------|-------|
| Comprehension | MCQ |

প্রথম প্রচেষ্টাতেই যে দেশ মঙ্গলের কক্ষপথে প্রথম প্রবেশ করেছিল, সেটি হলো -

1. আমেরিকা
2. চীন
3. ভারতবর্ষ
4. রাশিয়া

Options :

485584146397. 1
485584146398. 2
485584146399. 3
485584146400. 4

Question Number : 216 Question Id : 48558436601 Question Type : MCQ Option Shuffling : No Is Question Mandatory : No Calculator : None Response Time : N.A Think Time : N.A Minimum Instruction Time : 0

Correct Marks : 5 Wrong Marks : 1

Question Key Details :

| Key | Value |
|---------------|-------|
| Comprehension | MCQ |

The project of 'NASA' targeting the landing of first woman/women astronaut/s on moon is known as:

1. MOM
2. ARTEMIS
3. MISMOON
4. Moon opposition

Options :

485584146401. 1
485584146402. 2
485584146403. 3
485584146404. 4

Question Number : 216 Question Id : 48558436601 Question Type : MCQ Option Shuffling : No Is Question Mandatory : No Calculator : None Response Time : N.A Think Time : N.A Minimum Instruction Time : 0

Correct Marks : 5 Wrong Marks : 1

Question Key Details :

| Key | Value |
|---------------|-------|
| Comprehension | MCQ |

প্রথম মহিলা মহাকাশচারী/দের চম্বে অবতরনের লক্ষ্যে 'NASA' র প্রকল্পটির নাম ছিলো:

1. MOM
2. ARTEMIS
3. MISMOON
4. Moon opposition

Options :

485584146401. 1
485584146402. 2
485584146403. 3
485584146404. 4

Question Number : 217 Question Id : 48558436602 Question Type : MCQ Option Shuffling : No Is Question Mandatory : No Calculator : None Response Time : N.A Think Time : N.A Minimum Instruction Time : 0

Correct Marks : 5 Wrong Marks : 1

Question Key Details :

| Key | Value |
|---------------|-------|
| Comprehension | MCQ |

Which of the following is NOT true: The turning points of the graph of a function :

1. Represent local maxima and local minima
2. Represent Absolute maxima and Absolute minima
3. Represent point of inflexion
4. Represent neither local maxima nor local minima

Options :

485584146405. 1
485584146406. 2
485584146407. 3
485584146408. 4

Question Number : 217 Question Id : 48558436602 Question Type : MCQ Option Shuffling : No Is Question Mandatory : No Calculator : None Response Time : N.A Think Time : N.A Minimum Instruction Time : 0

Correct Marks : 5 Wrong Marks : 1

Question Key Details :

| Key | Value |
|---------------|-------|
| Comprehension | MCQ |

নিম্নলিখিতগুলির মধ্যে কোনটি সঠিক নয় ?
একটি ফাংশনের গ্রাফের টার্নিং পয়েন্ট

1. স্থানিক ম্যাক্সিমা ও স্থানিক মিনিমার প্রতিনিধিত্ব করে
2. পরম ম্যাক্সিমা ও পরম মিনিমার প্রতিনিধিত্ব করে
3. কার্ভের (রিফ্লেকশন) বিন্দু
4. স্থানিক ম্যাক্সিমা বা স্থানিক মিনিমা কোনটাই নয়

Options :

485584146405. 1
485584146406. 2
485584146407. 3
485584146408. 4

Question Number : 218 Question Id : 48558436603 Question Type : MCQ Option Shuffling : No Is Question Mandatory : No Calculator : None Response Time : N.A Think Time : N.A Minimum Instruction Time : 0

Correct Marks : 5 Wrong Marks : 1

Question Key Details :

| Key | Value |
|---------------|-------|
| Comprehension | MCQ |

Any teaching activity which puts before the students the real problems, that they have to solve for themselves, problems for which there are no easy solutions in any book _____.

1. brings them close to guide books
2. makes them skilled
3. crafts their activity
4. sharpens their intelligence

Options :

485584146409. 1
485584146410. 2
485584146411. 3
485584146412. 4

Question Number : 218 Question Id : 48558436603 Question Type : MCQ Option Shuffling : No Is Question Mandatory : No Calculator : None Response Time : N.A Think Time : N.A Minimum Instruction Time : 0

Correct Marks : 5 Wrong Marks : 1

Question Key Details :

| Key | Value |
|---------------|-------|
| Comprehension | MCQ |

কোনো একটি শিক্ষাদান কর্মক্রম যা, শিক্ষার্থীদের সামনে প্রকৃত সমস্যাগুলি তুলে ধরে, যেগুলো তাদের নিজেদেরই সমাধান করতে হবে, যে সমস্যাগুলোর কোনো সহজ সমাধান কোনো বইয়ে নেই _____

1. তাদের গাইড বইয়ের কাছাকাছি নিয়ে আসে
2. তাদের দক্ষ করে তোলে
3. তাদের কার্যকলাপে নৈপুণ্য বা অফট গড়ে তোলে
4. তাদের বুদ্ধিমত্তা তীক্ষ্ণ হয়

Options :

485584146409. 1
485584146410. 2
485584146411. 3
485584146412. 4

Question Number : 219 Question Id : 48558436604 Question Type : MCQ Option Shuffling : No Is Question Mandatory : No Calculator : None Response Time : N.A Think Time : N.A Minimum Instruction Time : 0

Correct Marks : 5 Wrong Marks : 1

Question Key Details :

| Key | Value |
|---------------|-------|
| Comprehension | MCQ |

A mathematics teacher told the students that her laptop and phone can run out of charge independently of each other. The probability that her phone is out of charge is 0.2 and the probability that they are both out of charge is 0.06. Find the probability that her laptop is out of charge.

1. 0.86
2. 0.4
3. 0.3
4. 0.14

Options :

485584146413. 1
485584146414. 2
485584146415. 3
485584146416. 4

Question Number : 219 Question Id : 48558436604 Question Type : MCQ Option Shuffling : No Is Question Mandatory : No Calculator : None Response Time : N.A Think Time : N.A Minimum Instruction Time : 0

Correct Marks : 5 Wrong Marks : 1

Question Key Details :

| Key | Value |
|---------------|-------|
| Comprehension | MCQ |

একজন গণিত শিক্ষক ছাত্রদের বললেন যে, তাঁর ল্যাপটপ ও ফোন কারও উপর নির্ভরশীল না হয়ে চার্জ ফুরিয়ে যেতে পারে। ফোনের চার্জ শেষ হওয়ার সম্ভাবনা 0.2 এবং দুটির উভয়ের চার্জ শেষ হওয়ার সম্ভাবনা 0.06। তাহলে ল্যাপটপের চার্জ শেষ হওয়ার সম্ভাবনা কত ?

1. 0.86
2. 0.4
3. 0.3
4. 0.14

Options :

485584146413. 1
485584146414. 2
485584146415. 3
485584146416. 4

Question Number : 220 Question Id : 48558436605 Question Type : MCQ Option Shuffling : No Is Question Mandatory : No Calculator : None Response Time : N.A Think Time : N.A Minimum Instruction Time : 0

Correct Marks : 5 Wrong Marks : 1

Question Key Details :

| Key | Value |
|---------------|-------|
| Comprehension | MCQ |

By explaining the theory of probability a teacher told that "For a particular E_i we can use a special formula."

Which theorem is he/she teaching?

1. Conditional Probability Theorem
2. Multiplication Theorem
3. Baye's Theorem
4. Total Probability Theorem

Options :

485584146417. 1
485584146418. 2
485584146419. 3
485584146420. 4

Question Number : 220 Question Id : 48558436605 Question Type : MCQ Option Shuffling : No Is Question Mandatory : No Calculator : None Response Time : N.A Think Time : N.A Minimum Instruction Time : 0

Correct Marks : 5 Wrong Marks : 1

Question Key Details :

| Key | Value |
|---------------|-------|
| Comprehension | MCQ |

সম্ভাবনার তত্ত্ব ব্যাখ্যা করে একজন শিক্ষক বললেন যে, " একটি নির্দিষ্ট E_i এর জন্য আমরা একটি নির্দিষ্ট ফর্মুলা ব্যবহার করতে পারি"

তিনি কোন তত্ত্ব (থিওরেম) পড়াছিলেন?

1. কন্ডিশনাল প্রবাবিলিটি থিওরেম
2. মাল্টিপ্লিকেশন থিওরেম
3. বেইস থিওরেম
4. টোটাল প্রবাবিলিটি থিওরেম

Options :

485584146417. 1
485584146418. 2
485584146419. 3
485584146420. 4

Question Number : 221 Question Id : 48558436606 Question Type : MCQ Option Shuffling : No Is Question Mandatory : No Calculator : None Response Time : N.A Think Time : N.A Minimum Instruction Time : 0

Correct Marks : 5 Wrong Marks : 1

Question Key Details :

| Key | Value |
|---------------|-------|
| Comprehension | MCQ |

If a child draws a tree by observing the trees in her surroundings and her teacher introduced scale drawings to her, the experience can help her to develop a _____.

1. sense of aesthetics
2. sense of proportion
3. sense of perspective
4. sense of transference

Options :

485584146421. 1
485584146422. 2
485584146423. 3
485584146424. 4

Question Number : 221 Question Id : 48558436606 Question Type : MCQ Option Shuffling : No Is Question Mandatory : No Calculator : None Response Time : N.A Think Time : N.A Minimum Instruction Time : 0

Correct Marks : 5 Wrong Marks : 1

Question Key Details :

| Key | Value |
|---------------|-------|
| Comprehension | MCQ |

যদি একজন শিশু তার পরিবেশে গাছ দেখে গাছ আঁকতে শুরু করে এবং তার শিক্ষক তাকে কেল অঙ্কন চালু করেন, তাহলে এই অভিজ্ঞতাটি তাকে _____ গড়ে তুলতে সাহায্য করে।

1. নান্দনিক জ্ঞান
2. অনুপাতের জ্ঞান
3. দৃষ্টিকোণের জ্ঞান
4. স্থানান্তরের জ্ঞান

Options :

485584146421. 1
485584146422. 2
485584146423. 3
485584146424. 4

Question Number : 222 Question Id : 48558436607 Question Type : MCQ Option Shuffling : No Is Question Mandatory : No Calculator : None Response Time : N.A Think Time : N.A Minimum Instruction Time : 0

Correct Marks : 5 Wrong Marks : 1

Question Key Details :

| Key | Value |
|---------------|-------|
| Comprehension | MCQ |

A lot of school children find mathematics very difficult and social sciences easy. One of the reasons for their perceptive is that

1. mathematics demands expression
2. mathematics is not common knowledge
3. mathematics demands precision
4. mathematics involves concrete images

Options :

485584146425. 1
485584146426. 2
485584146427. 3
485584146428. 4

Question Number : 222 Question Id : 48558436607 Question Type : MCQ Option Shuffling : No Is Question Mandatory : No Calculator : None Response Time : N.A Think Time : N.A Minimum Instruction Time : 0

Correct Marks : 5 Wrong Marks : 1

Question Key Details :

| Key | Value |
|---------------|-------|
| Comprehension | MCQ |

বহুসংখ্যক স্কুল ছাত্রের নিকট গণিত খুব কঠিন এবং সমাজ বিজ্ঞান সহজ বোধ্য হয়। এই ধরনের উপলব্ধির অন্যতম কারণ হলো যে -

1. গণিত প্রকাশ করার দাবী রাখে
2. গণিত সাধারণ জ্ঞান নয়
3. গণিত নির্ভুলতা দাবী করে
4. গণিত বাস্তব ছবির সাথে জড়িত

Options :

485584146425. 1
485584146426. 2
485584146427. 3
485584146428. 4

Question Number : 223 Question Id : 48558436608 Question Type : MCQ Option Shuffling : No Is Question Mandatory : No Calculator : None Response Time : N.A Think Time : N.A Minimum Instruction Time : 0

Correct Marks : 5 Wrong Marks : 1

Question Key Details :

| Key | Value |
|---------------|-------|
| Comprehension | MCQ |

National Gallery of Modern Art (NGMA) is situated in

1. London
2. California
3. Kolkata
4. New Delhi

Options :

485584146429. 1
485584146430. 2
485584146431. 3
485584146432. 4

Question Number : 223 Question Id : 48558436608 Question Type : MCQ Option Shuffling : No Is Question Mandatory : No Calculator : None Response Time : N.A Think Time : N.A Minimum Instruction Time : 0

Correct Marks : 5 Wrong Marks : 1

Question Key Details :

| Key | Value |
|---------------|-------|
| Comprehension | MCQ |

আধুনিক শিল্পকলার জাতীয় গ্যালারী (NGMA) _____ এ অবস্থিত।

1. লন্ডন
2. ক্যালিফোর্নিয়া
3. কলকাতা
4. নূতন দিল্লী

Options :

485584146429. 1
485584146430. 2
485584146431. 3
485584146432. 4

Question Number : 224 Question Id : 48558436609 Question Type : MCQ Option Shuffling : No Is Question Mandatory : No Calculator : None Response Time : N.A Think Time : N.A Minimum Instruction Time : 0

Correct Marks : 5 Wrong Marks : 1

Question Key Details :

| Key | Value |
|---------------|-------|
| Comprehension | MCQ |

Which School of Art was also known as Graeco Buddhist School of Art?

1. Amravati School of Art
2. Mathura School of Art
3. Gandhara School of Art
4. Bengal School of Art

Options :

485584146433. 1
485584146434. 2
485584146435. 3
485584146436. 4

Question Number : 224 Question Id : 48558436609 Question Type : MCQ Option Shuffling : No Is Question Mandatory : No Calculator : None Response Time : N.A Think Time : N.A Minimum Instruction Time : 0

Correct Marks : 5 Wrong Marks : 1

Question Key Details :

| Key | Value |
|---------------|-------|
| Comprehension | MCQ |

কোন আর্ট স্কুল 'গ্রেসিও বুদ্ধিস্ট স্কুল অফ আর্ট' নামে পরিচিত ?

1. অমরাবতী স্কুল অফ আর্ট
2. মথুরা স্কুল অফ আর্ট
3. গান্ধার স্কুল অফ আর্ট
4. বেঙ্গল স্কুল অফ আর্ট

Options :

485584146433. 1
485584146434. 2
485584146435. 3
485584146436. 4

Question Number : 225 Question Id : 48558436610 Question Type : MCQ Option Shuffling : No Is Question Mandatory : No Calculator : None Response Time : N.A Think Time : N.A Minimum Instruction Time : 0

Correct Marks : 5 Wrong Marks : 1

Question Key Details :

| Key | Value |
|---------------|-------|
| Comprehension | MCQ |

What was the profession of Partha Mitter?

1. Painter
2. Sculptor
3. Art Historian
4. Architect

Options :

485584146437. 1
485584146438. 2
485584146439. 3
485584146440. 4

Question Number : 225 Question Id : 48558436610 Question Type : MCQ Option Shuffling : No Is Question Mandatory : No Calculator : None Response Time : N.A Think Time : N.A Minimum Instruction Time : 0

Correct Marks : 5 Wrong Marks : 1

Question Key Details :

| Key | Value |
|---------------|-------|
| Comprehension | MCQ |

পার্থমিত্তার এর পেশা কি ছিল ?

1. চিত্রকর
2. ভাস্কর
3. শিল্প ইতিহাসবিদ
4. স্থপতি

Options :

485584146437. 1
485584146438. 2
485584146439. 3
485584146440. 4

Question Number : 226 Question Id : 48558436611 Question Type : MCQ Option Shuffling : No Is Question Mandatory : No Calculator : None Response Time : N.A Think Time : N.A Minimum Instruction Time : 0

Correct Marks : 5 Wrong Marks : 1

Question Key Details :

| Key | Value |
|---------------|-------|
| Comprehension | MCQ |

'Contemporary Art in India : A perspective' is a book written by

1. Pran Nath Mago
2. Jasleen Dhamija
3. K. R. Srinivasan
4. Devi Prasad

Options :

485584146441. 1
485584146442. 2
485584146443. 3
485584146444. 4

Question Number : 226 Question Id : 48558436611 Question Type : MCQ Option Shuffling : No Is Question Mandatory : No Calculator : None Response Time : N.A Think Time : N.A Minimum Instruction Time : 0

Correct Marks : 5 Wrong Marks : 1

Question Key Details :

| Key | Value |
|---------------|-------|
| Comprehension | MCQ |

'Contemporary Art in India : A perspective' বইটির লেখক -

1. প্রাণ নাথ ম্যাগো
2. জসলিন ধামজা
3. কে. আর. প্রসাদ
4. দেবী প্রসাদ

Options :

485584146441. 1
485584146442. 2
485584146443. 3
485584146444. 4

Question Number : 227 Question Id : 48558436612 Question Type : MCQ Option Shuffling : No Is Question Mandatory : No Calculator : None Response Time : N.A Think Time : N.A Minimum Instruction Time : 0

Correct Marks : 5 Wrong Marks : 1

Question Key Details :

| Key | Value |
|---------------|-------|
| Comprehension | MCQ |

A technique of portraying an object to be closer than it actually is, or having less depth or distance, is called _____.

1. Depth of field
2. Foreshortening
3. Focusing
4. Illustration

Options :

485584146445. 1
485584146446. 2
485584146447. 3
485584146448. 4

Question Number : 227 Question Id : 48558436612 Question Type : MCQ Option Shuffling : No Is Question Mandatory : No Calculator : None Response Time : N.A Think Time : N.A Minimum Instruction Time : 0

Correct Marks : 5 Wrong Marks : 1

Question Key Details :

| Key | Value |
|---------------|-------|
| Comprehension | MCQ |

একটি বস্তুকে বাস্তবের থেকে কাছে, অথবা কম গভীরতা বা দূরত্ব চিত্রিত করার কৌশলকে বলা হয় -

1. ডেপথ অব ফিল্ড
2. ফোর স্টেরনিং
3. ফোকাসিং
4. ইলাসট্রেশন

Options :

485584146445. 1
485584146446. 2
485584146447. 3
485584146448. 4

Question Number : 228 Question Id : 48558436613 Question Type : MCQ Option Shuffling : No Is Question Mandatory : No Calculator : None Response Time : N.A Think Time : N.A Minimum Instruction Time : 0

Correct Marks : 5 Wrong Marks : 1

Question Key Details :

| Key | Value |
|---------------|-------|
| Comprehension | MCQ |

The artwork 'Santhal Family' made by Ramkinker Vajjis is which medium/ form

1. Oil Painting
2. Mural
3. Sculpture
4. Monograph

Options :

485584146449. 1
485584146450. 2
485584146451. 3
485584146452. 4

Question Number : 228 Question Id : 48558436613 Question Type : MCQ Option Shuffling : No Is Question Mandatory : No Calculator : None Response Time : N.A Think Time : N.A Minimum Instruction Time : 0

Correct Marks : 5 Wrong Marks : 1

Question Key Details :

| Key | Value |
|---------------|-------|
| Comprehension | MCQ |

'সাঁওতাল পরিবার' শিল্পকৰ্মটি রামকিঙ্কর বেইজ কোন মাধ্যম / ফর্মে করেছিলেন ?

1. তৈল চিত্র
2. ম্যুরাল
3. ভাস্কর্য
4. মনোগ্রাফ

Options :

485584146449. 1
485584146450. 2
485584146451. 3
485584146452. 4

Question Number : 229 Question Id : 48558436614 Question Type : MCQ Option Shuffling : No Is Question Mandatory : No Calculator : None Response Time : N.A Think Time : N.A Minimum Instruction Time : 0

Correct Marks : 5 Wrong Marks : 1

Question Key Details :

| Key | Value |
|---------------|-------|
| Comprehension | MCQ |

Match List I with List II

| LIST I | | LIST II | |
|--------|------------------------|---------|------------|
| A. | Intrusive igneous rock | I. | Slate |
| B. | Extrusive igneous rock | II. | Basalt |
| C. | Sedimentary rock | III. | Granite |
| D. | Metamorphic rock | IV. | Lime stone |

Choose the correct answer from the options given below:

1. A-III, B-II, C-IV, D-I
2. A-I, B-II, C-III, D-IV
3. A-IV, B-III, C-II, D-I
4. A-II, B-III, C-I, D-IV

Options :

485584146453. 1
485584146454. 2
485584146455. 3
485584146456. 4

Question Number : 229 Question Id : 48558436614 Question Type : MCQ Option Shuffling : No Is Question Mandatory : No Calculator : None Response Time : N.A Think Time : N.A Minimum Instruction Time : 0

Correct Marks : 5 Wrong Marks : 1

Question Key Details :

| Key | Value |
|---------------|-------|
| Comprehension | MCQ |

নীচের তালিকা দুটি মেনাও -

| তালিকা I | | তালিকা II | |
|----------|----------------------|-----------|------------|
| A. | উসবেধ আগ্নেয় শিলা | I. | স্লেট |
| B. | বহিঃস্থ আগ্নেয় শিলা | II. | বাসাল্ট |
| C. | পাললিক শিলা | III. | গ্রানাইট |
| D. | রূপান্তরিত শিলা | IV. | লাইম স্টোন |

নীচের পছন্দগুলি থেকে সঠিক উত্তর বেছে নাও:

1. A-III, B-II, C-IV, D-I
2. A-I, B-II, C-III, D-IV
3. A-IV, B-III, C-II, D-I
4. A-II, B-III, C-I, D-IV

Options :

485584146453. 1
485584146454. 2
485584146455. 3

485584146456. 4

Question Number : 230 Question Id : 48558436615 Question Type : MCQ Option Shuffling : No Is Question Mandatory : No Calculator : None Response Time : N.A Think Time : N.A Minimum Instruction Time : 0

Correct Marks : 5 Wrong Marks : 1

Question Key Details :

| Key | Value |
|---------------|-------|
| Comprehension | MCQ |

The content of teaching social sciences should aim at raising students' awareness through

1. questioning of familiar social reality
2. enacting of familiar social reality
3. developing a neutral perspective on society
4. transmitting an idea of society

Options :

485584146457. 1
485584146458. 2
485584146459. 3
485584146460. 4

Question Number : 230 Question Id : 48558436615 Question Type : MCQ Option Shuffling : No Is Question Mandatory : No Calculator : None Response Time : N.A Think Time : N.A Minimum Instruction Time : 0

Correct Marks : 5 Wrong Marks : 1

Question Key Details :

| Key | Value |
|---------------|-------|
| Comprehension | MCQ |

সমাজ বিজ্ঞানের বিষয়বস্তু শিক্ষণের লক্ষ্য হওয়া উচিত ছাত্রদের _____ মাধ্যমে সচেতনতা বৃদ্ধি -

1. পরিচিত সমাজের বাস্তবসম্মত প্রশ্ন
2. পরিচিত সামাজিক বাস্তবতা প্রশয়ন
3. সমাজে একটি নিরপেক্ষ দৃষ্টিভঙ্গী গড়ে তোলা
4. সমাজের একটি ধারণা প্রেরণ

Options :

485584146457. 1
485584146458. 2
485584146459. 3
485584146460. 4

Question Number : 231 Question Id : 48558436616 Question Type : MCQ Option Shuffling : No Is Question Mandatory : No Calculator : None Response Time : N.A Think Time : N.A Minimum Instruction Time : 0

Correct Marks : 5 Wrong Marks : 1

Question Key Details :

| Key | Value |
|---------------|-------|
| Comprehension | MCQ |

Who wrote the book "History of British India" ?

1. James Mill
2. James Rainil
3. Warren Hastings
4. Cornwallis

Options :

485584146461. 1
485584146462. 2
485584146463. 3
485584146464. 4

Question Number : 231 Question Id : 48558436616 Question Type : MCQ Option Shuffling : No Is Question Mandatory : No Calculator : None Response Time : N.A Think Time : N.A Minimum Instruction Time : 0

Correct Marks : 5 Wrong Marks : 1

Question Key Details :

| Key | Value |
|---------------|-------|
| Comprehension | MCQ |

"History of British India" পুস্তকটি কে লিখেছিলেন?

1. জেমস মিল
2. জেমস রেইনিল
3. ওয়ারেন হেস্টিংস
4. কর্নওয়ালিস

Options :

485584146461. 1
485584146462. 2
485584146463. 3
485584146464. 4

Question Number : 232 Question Id : 48558436617 Question Type : MCQ Option Shuffling : No Is Question Mandatory : No Calculator : None Response Time : N.A Think Time : N.A Minimum Instruction Time : 0

Correct Marks : 5 Wrong Marks : 1

Question Key Details :

| Key | Value |
|---------------|-------|
| Comprehension | MCQ |

The school level social sciences encompass _____ concerns of society and include a wide range of content drawn from various disciplines.

1. unitary
2. overarching
3. diverse
4. sweeping

Options :

485584146465. 1
485584146466. 2
485584146467. 3
485584146468. 4

Question Number : 232 Question Id : 48558436617 Question Type : MCQ Option Shuffling : No Is Question Mandatory : No Calculator : None Response Time : N.A Think Time : N.A Minimum Instruction Time : 0

Correct Marks : 5 Wrong Marks : 1

Question Key Details :

| Key | Value |
|---------------|-------|
| Comprehension | MCQ |

বিদ্যালয় স্তরের সমাজ বিজ্ঞান _____ সমাজের উদ্বেগগুলিকে অন্তর্ভুক্ত করে এবং বিভিন্ন বিভাগের বিস্তৃত বিষয়বস্তু এর অন্তর্ভুক্ত করা হয়েছে।

1. ইউনিটারী
2. ওভারআর্চিং
3. ডাইভার্স
4. সুইপিং

Options :

485584146465. 1
485584146466. 2
485584146467. 3
485584146468. 4

Question Number : 233 Question Id : 48558436618 Question Type : MCQ Option Shuffling : No Is Question Mandatory : No Calculator : None Response Time : N.A Think Time : N.A Minimum Instruction Time : 0

Correct Marks : 5 Wrong Marks : 1

Question Key Details :

| Key | Value |
|---------------|-------|
| Comprehension | MCQ |

Which of the following subjects has replaced 'civics' in the school syllabus?

1. Civilization
2. Social and Political life
3. Economic and Social Life
4. Nationalism

Options :

485584146469. 1
485584146470. 2
485584146471. 3
485584146472. 4

Question Number : 233 Question Id : 48558436618 Question Type : MCQ Option Shuffling : No Is Question Mandatory : No Calculator : None Response Time : N.A Think Time : N.A Minimum Instruction Time : 0

Correct Marks : 5 Wrong Marks : 1

Question Key Details :

| Key | Value |
|---------------|-------|
| Comprehension | MCQ |

বিদ্যালয়ের পাঠক্রমে নিম্নলিখিত কোন বিষয় 'সিভিকস' কে প্রতিস্থাপিত করেছে ?

1. মানবসভ্যতা
2. সামাজিক ও রাজনৈতিক জীবন
3. অর্থনীতি ও সামাজিক জীবন
4. জাতীয়তাবাদ

Options :

485584146469. 1
485584146470. 2
485584146471. 3
485584146472. 4

Question Number : 234 Question Id : 48558436619 Question Type : MCQ Option Shuffling : No Is Question Mandatory : No Calculator : None Response Time : N.A Think Time : N.A Minimum Instruction Time : 0

Correct Marks : 5 Wrong Marks : 1

Question Key Details :

| Key | Value |
|---------------|-------|
| Comprehension | MCQ |

Today, if a teacher wants to teach the importance of good deeds and practicing non-violence, she can use the following as a resource:

1. Ambedkar's writings
2. Jaina teachings
3. Puranic Literature
4. Akbarnama

Options :

485584146473. 1
485584146474. 2
485584146475. 3
485584146476. 4

Question Number : 234 Question Id : 48558436619 Question Type : MCQ Option Shuffling : No Is Question Mandatory : No Calculator : None Response Time : N.A Think Time : N.A Minimum Instruction Time : 0

Correct Marks : 5 Wrong Marks : 1

Question Key Details :

| Key | Value |
|---------------|-------|
| Comprehension | MCQ |

যদি এখন কোনো শিক্ষক ভালো কাজের গুরুত্ব শিক্ষা দিতে চান এবং অহিংস অভ্যাস করাতে চান তাহলে তিনি নিচের কোনটিকে সম্পদ হিসাবে ব্যবহার করবেন?

1. আন্দোলনের লেখা
2. জৈন ধর্মের ধ্যান ধারণা
3. পুরাণ সাহিত্য
4. আকবরনামা

Options :

485584146473. 1
485584146474. 2
485584146475. 3
485584146476. 4

Question Number : 235 Question Id : 48558436620 Question Type : MCQ Option Shuffling : No Is Question Mandatory : No Calculator : None Response Time : N.A Think Time : N.A Minimum Instruction Time : 0

Correct Marks : 5 Wrong Marks : 1

Question Key Details :

| Key | Value |
|---------------|-------|
| Comprehension | MCQ |

Literary devices such as simile and metaphor are used in which of the following?

1. Prose
2. Poetry
3. Grammar
4. Drama

Options :

485584146477. 1
485584146478. 2
485584146479. 3
485584146480. 4

Question Number : 235 Question Id : 48558436620 Question Type : MCQ Option Shuffling : No Is Question Mandatory : No Calculator : None Response Time : N.A Think Time : N.A Minimum Instruction Time : 0

Correct Marks : 5 Wrong Marks : 1

Question Key Details :

| Key | Value |
|---------------|-------|
| Comprehension | MCQ |

উপমা ও রূপকের মত সাহিত্যের কৌশল নিম্নলিখিত কোনটিতে ব্যবহৃত হয় ?

1. গদ্য
2. কবিতা
3. গ্রামার
4. নাটক

Options :

485584146477. 1
485584146478. 2
485584146479. 3
485584146480. 4

Question Number : 236 Question Id : 48558436621 Question Type : MCQ Option Shuffling : No Is Question Mandatory : No Calculator : None Response Time : N.A Think Time : N.A Minimum Instruction Time : 0

Correct Marks : 5 Wrong Marks : 1

Question Key Details :

| Key | Value |
|---------------|-------|
| Comprehension | MCQ |

'Man is a born child, his power is the power of growth.'

What is the meaning of this sentence?

1. Humans should remain stagnant
2. Humans should refrain from adding to sources of knowledge
3. Intellectual and cognitive regression are important characteristics of humans
4. Intellectual and cognitive development are important characteristics of human.

Options :

485584146481. 1
485584146482. 2
485584146483. 3
485584146484. 4

Question Number : 236 Question Id : 48558436621 Question Type : MCQ Option Shuffling : No Is Question Mandatory : No Calculator : None Response Time : N.A Think Time : N.A Minimum Instruction Time : 0

Correct Marks : 5 Wrong Marks : 1

Question Key Details :

| Key | Value |
|---------------|-------|
| Comprehension | MCQ |

'Man is a born child, his power is the power of growth.'

এই কথাটির অর্থ কি ?

1. মানুষের স্ববির থাকার উচিত
2. মানুষের জ্ঞানের উৎসে সংযোজন করা থেকে বিরত থাকা উচিত
3. মানুষের চরিত্রে বৌদ্ধিক ও জ্ঞানমূলক রিগ্রেশন খুব গুরুত্বপূর্ণ বৈশিষ্ট্য
4. মানুষের চরিত্রে বৌদ্ধিক ও জ্ঞানের বিকাশ খুব গুরুত্বপূর্ণ বৈশিষ্ট্য

Options :

485584146481. 1
485584146482. 2
485584146483. 3
485584146484. 4

Question Number : 237 Question Id : 48558436622 Question Type : MCQ Option Shuffling : No Is Question Mandatory : No Calculator : None Response Time : N.A Think Time : N.A Minimum Instruction Time : 0

Correct Marks : 5 Wrong Marks : 1

Question Key Details :

| Key | Value |
|---------------|-------|
| Comprehension | MCQ |

The Booker Prize 2022 was awarded to which Indian novel?

1. The Alchemist
2. A Tomb of Sand
3. Train to Pakistan
4. One Hundred Years of Solitude

Options :

485584146485. 1
485584146486. 2
485584146487. 3
485584146488. 4

Question Number : 237 Question Id : 48558436622 Question Type : MCQ Option Shuffling : No Is Question Mandatory : No Calculator : None Response Time : N.A Think Time : N.A Minimum Instruction Time : 0

Correct Marks : 5 Wrong Marks : 1

Question Key Details :

| Key | Value |
|---------------|-------|
| Comprehension | MCQ |

কোন ভারতীয় উপন্যাস 2022 খ্রীষ্টাব্দের 'বুকার' পুরস্কার প্রাপ্ত হয় ?

1. The Alchemist
2. A Tomb of Sand
3. Train to Pakistan
4. One Hundred Years of Solitude

Options :

485584146485. 1
485584146486. 2
485584146487. 3
485584146488. 4

Question Number : 238 Question Id : 48558436623 Question Type : MCQ Option Shuffling : No Is Question Mandatory : No Calculator : None Response Time : N.A Think Time : N.A Minimum Instruction Time : 0

Correct Marks : 5 Wrong Marks : 1

Question Key Details :

| Key | Value |
|---------------|-------|
| Comprehension | MCQ |

What are the challenges faced by students while learning English in India?

- A. Lack of trained teachers
- B. Lack of an enabling language environment
- C. Rote memorisation of poems
- D. Objective way of testing language skills
- E. Lack of proper teaching - learning materials

Choose the correct answer from the options given below:

- 1. A, B, C only
- 2. B, C, D only
- 3. A, B, C, D only
- 4. A, B, C, D and E

Options :

- 485584146489. 1
- 485584146490. 2
- 485584146491. 3
- 485584146492. 4

Question Number : 238 Question Id : 48558436623 Question Type : MCQ Option Shuffling : No Is Question Mandatory : No Calculator : None Response Time : N.A Think Time : N.A Minimum Instruction Time : 0

Correct Marks : 5 Wrong Marks : 1

Question Key Details :

| Key | Value |
|---------------|-------|
| Comprehension | MCQ |

ভারতবর্ষে ইংরাজী শিক্ষার ক্ষেত্রে শিক্ষার্থীদের কোন কোন চ্যালেঞ্জের মুখোমুখি হতে হয় ?

- A. প্রশিক্ষণ প্রাপ্ত শিক্ষকের অভাব
- B. একটি সক্রিয় ভাষা পরিবেশের অভাব
- C. স্মৃতি নির্ভর কবিতা মুখস্থ করা
- D. ভাষা দক্ষতা পরীক্ষা করার নৈর্ব্যক্তিক উপায়
- E. যথাযথ শিক্ষণ-শিখন উপকরণের অভাব

নীচের পছন্দগুলি থেকে সঠিক উত্তর বেছে নাও:

- 1. কেবলমাত্র A, B, C
- 2. কেবলমাত্র B, C, D
- 3. কেবলমাত্র A, B, C, D
- 4. A, B, C, D এবং E

Options :

- 485584146489. 1
- 485584146490. 2

485584146491. 3

485584146492. 4

Question Number : 239 Question Id : 48558436624 Question Type : MCQ Option Shuffling : No Is Question Mandatory : No Calculator : None Response Time : N.A Think Time : N.A Minimum Instruction Time : 0

Correct Marks : 5 Wrong Marks : 1

Question Key Details :

| Key | Value |
|---------------|-------|
| Comprehension | MCQ |

What is a biography?

1. An account of a person written by oneself.
2. An account of a person written by others.
3. A book of biology.
4. A historical account.

Options :

485584146493. 1

485584146494. 2

485584146495. 3

485584146496. 4

Question Number : 239 Question Id : 48558436624 Question Type : MCQ Option Shuffling : No Is Question Mandatory : No Calculator : None Response Time : N.A Think Time : N.A Minimum Instruction Time : 0

Correct Marks : 5 Wrong Marks : 1

Question Key Details :

| Key | Value |
|---------------|-------|
| Comprehension | MCQ |

বায়োগ্রাফি (biography) কাকে বলে ?

1. একজন ব্যক্তির নিজের লিখিত জীবনালেখ্য
2. একজন ব্যক্তি সম্পর্কে অন্য কারও লেখা গ্রন্থ
3. জীববিদ্যার বই
4. ঐতিহাসিক কাহিনী

Options :

485584146493. 1

485584146494. 2

485584146495. 3

485584146496. 4

Question Number : 240 Question Id : 48558436625 Question Type : MCQ Option Shuffling : No Is Question Mandatory : No Calculator : None Response Time : N.A Think Time : N.A Minimum Instruction Time : 0

Correct Marks : 5 Wrong Marks : 1

Question Key Details :

| Key | Value |
|---------------|-------|
| Comprehension | MCQ |

How can grammar books be modified to minimise the difficulties learners face while learning grammar?

- A. By teaching grammar in context
- B. By including pictures and illustrations
- C. By giving more practice and examples
- D. By focusing only on the rules
- E. By translating in different languages

Choose the correct answer from the options given below:

- 1. A, B, C only
- 2. A, D, E only
- 3. C, D, E only
- 4. B, C, D only

Options :

- 485584146497. 1
- 485584146498. 2
- 485584146499. 3
- 485584146500. 4

Question Number : 240 Question Id : 48558436625 Question Type : MCQ Option Shuffling : No Is Question Mandatory : No Calculator : None Response Time : N.A Think Time : N.A Minimum Instruction Time : 0

Correct Marks : 5 Wrong Marks : 1

Question Key Details :

| Key | Value |
|---------------|-------|
| Comprehension | MCQ |

গ্রামার লিখনের সময় শিক্ষার্থীরা যে অসুবিধার মুখোমুখি হয়, সেগুলি কমানোর জন্য গ্রামার বই কিভাবে পরিবর্তন করা যেতে পারে?

- A. প্রসঙ্গক্রমে ব্যাকরণ শেখানো
- B. ছবি ও চিত্র সংযোজনের দ্বারা
- C. বেশি বেশি অভ্যাসকরণ ও অনুশীলনের দ্বারা
- D. কেবলমাত্র নিয়মের উপর মনোযোগের কেন্দ্র করে
- E. বিভিন্ন ভাষায় অনুবাদ করে

নীচের পছন্দগুলি থেকে সঠিক উত্তর বেছে নাও:

- 1. কেবলমাত্র A, B, C
- 2. কেবলমাত্র A, D, E
- 3. কেবলমাত্র C, D, E
- 4. কেবলমাত্র B, C, D

Options :

485584146497. 1
 485584146498. 2
 485584146499. 3
 485584146500. 4

Sub-Section Number : 2
Sub-Section Id : 4855842703
Question Shuffling Allowed : No
Is Section Default? : null

Question Number : 241 Question Id : 48558436626 Question Type : MCQ Option Shuffling : No Is Question Mandatory : No Calculator : None Response Time : N.A Think Time : N.A Minimum Instruction Time : 0

Correct Marks : 5 Wrong Marks : 1

Question Key Details :

| Key | Value |
|---------------|-------|
| Comprehension | Comp1 |

At the upper primary level, the emphasis is on engaging the learner in learning principles of science through familiar experiences, working with hands to design simple technological units and modules and continuing to learn more on environment and health through activities and surveys.

As a science teacher, you will agree that scientific concepts are learnt better if learners explore them through activities and experiments. Learners should be given opportunity to explore science in their everyday experiences. You should engage learners (preferably in groups) in meaningful investigations - particularly of the problems they perceive to be significant and important.

As a science teacher, you should encourage discussions with the teacher and peers. You can ask your learners to gather information from newspapers, knowledgeable persons in the neighborhood, and from easily available sources and discuss about them in class with peers and teachers.

Role play, skits, cooperative learning strategies should be adopted to ensure larger participation and sharing of learning outcomes. It is advised that biographical narratives of scientists and inventors can be used. You should keep in mind that efforts should be continued for development of the process skills of science.

In order to explore the orbits and distribution of electrons in orbits, which could be the most appropriate teaching strategy/method?

1. Lecture
2. Demonstration
3. Brain-storming followed by exercise
4. Numerical Practice

Options :

485584146501. 1
 485584146502. 2
 485584146503. 3
 485584146504. 4

Question Number : 241 Question Id : 48558436626 Question Type : MCQ Option Shuffling : No Is Question Mandatory :

No Calculator : None Response Time : N.A Think Time : N.A Minimum Instruction Time : 0

Correct Marks : 5 Wrong Marks : 1

Question Key Details :

| Key | Value |
|---------------|-------|
| Comprehension | Comp1 |

উচ্চ প্রাথমিক স্তরে, শিক্ষার্থীকে পরিচিত অভিজ্ঞতার মাধ্যমে শিক্ষার্থীকে বিজ্ঞানের নীতিগুলি শেখার জন্য নিয়ুক্ত করার উপর; সহজ প্রযুক্তিগত ইউনিট ও মডিউল ডিজাইন করার জন্য হাত দিয়ে কাজ করার উপর জোর দেওয়া হয়। এবং কার্যকলাপ ও সার্ভের মাধ্যমে পরিবেশ ও স্বাস্থ্য বিষয়ে আরও শিখতে থাকে।

বিজ্ঞান শিক্ষক হিসাবে আপনি স্বীকার করবেন যে কার্যপদ্ধতি ও পরীক্ষার মাধ্যমে যদি শিক্ষার্থীরা অন্বেষণ করে তাহলে বিজ্ঞানের ধারণা আরও ভালভাবে শেখা যায়। ছাত্রদের প্রতিদিনের অভিজ্ঞতার মাধ্যমে অন্বেষণ করে বিজ্ঞান শেখার সুযোগ দেওয়া উচিত। অর্থপূর্ণ অনুসন্ধান আপনার শিক্ষার্থীদের (বিশেষভাবে দলে) নিয়ুক্ত করা উচিত - বিশেষ করে যে সমস্যাগুলি তারা তাৎপর্যপূর্ণ ও গুরুত্বপূর্ণ বলে মনে করে।

বিজ্ঞানের শিক্ষক হিসাবে আপনার উচিত শিক্ষক ও বন্ধুদের (peer) সাথে আলোচনায় উৎসাহ দেওয়া। আপনি ছাত্রদের সংবাদপত্র থেকে, পাড়ার জ্ঞানী ব্যক্তির কাছ থেকে এবং সমস্ত রকমের সহজলভ্য উৎস থেকে তথ্য সংগ্রহ করার জন্য এবং শ্রেণীকক্ষে সেইগুলি নিয়ে শ্রেণীর বন্ধু ও শিক্ষকদের সাথে আলোচনা করতে নির্দেশ দেবেন।

বৃহত্তর অংশগ্রহণ এবং শিখনের ফলাফল ভাগাভাগি নিশ্চিত করতে ভূমিকা পালন, ফ্রিট, সহযোগিতামূলক শিক্ষার কৌশল গ্রহণ করা উচিত। এটি পরামর্শ দেওয়া হয় যে বিজ্ঞানী এবং উদ্ভাবকদের জীবনীমূলক আখ্যান ব্যবহার করা যেতে পারে। আপনার স্বরণে রাখা উচিত যে, বিজ্ঞানের প্রক্রিয়া দক্ষতা বিকাশের জন্য প্রচেষ্টা রাখা উচিত।

কক্ষপথ এবং কক্ষপথে ইলেকট্রন বিন্যাস অন্বেষণের জন্য কোনটি সবচেয়ে উপযুক্ত শিক্ষণ কৌশল পদ্ধতি হতে পারে?

1. বক্তৃতা
2. প্রদর্শন
3. ব্যায়াম ও তার পরবর্তী মস্তিষ্কের আলোড়ন (Brain storming)
4. সংখ্যাগত অনুশীলন

Options :

485584146501. 1

485584146502. 2

485584146503. 3

485584146504. 4

Question Number : 242 Question Id : 48558436627 Question Type : MCQ Option Shuffling : No Is Question Mandatory : No Calculator : None Response Time : N.A Think Time : N.A Minimum Instruction Time : 0

Correct Marks : 5 Wrong Marks : 1

Question Key Details :

| Key | Value |
|---------------|-------|
| Comprehension | Comp1 |

At the upper primary level, the emphasis is on engaging the learner in learning principles of science through familiar experiences, working with hands to design simple technological units and modules and continuing to learn more on environment and health through activities and surveys.

As a science teacher, you will agree that scientific concepts are learnt better if learners explore them through activities and experiments. Learners should be given opportunity to explore science in their everyday experiences. You should engage learners (preferably in groups) in meaningful investigations - particularly of the problems they perceive to be significant and important.

As a science teacher, you should encourage discussions with the teacher and peers. You can ask your learners to gather information from newspapers, knowledgeable persons in the neighborhood, and from easily available sources and discuss about them in class with peers and teachers.

Role play, skits, cooperative learning strategies should be adopted to ensure larger participation and sharing of learning outcomes. It is advised that biographical narratives of scientists and inventors can be used. You should keep in mind that efforts should be continued for development of the process skills of science.

Which would be the most appropriate teaching learning material to explain different types of atomic models?

1. Charts
2. Pictures
3. Video animation
4. Black board

Options :

- 485584146505. 1
- 485584146506. 2
- 485584146507. 3
- 485584146508. 4

Question Number : 242 Question Id : 48558436627 Question Type : MCQ Option Shuffling : No Is Question Mandatory : No Calculator : None Response Time : N.A Think Time : N.A Minimum Instruction Time : 0

Correct Marks : 5 Wrong Marks : 1

Question Key Details :

| Key | Value |
|---------------|-------|
| Comprehension | Comp1 |

উচ্চ প্রাথমিক স্তরে, শিক্ষার্থীকে পরিচিত অভিজ্ঞতার মাধ্যমে শিক্ষার্থীকে বিজ্ঞানের নীতিগুলি শেখার জন্য নিয়ুক্ত করার উপর; সহজ প্রযুক্তিগত ইউনিট ও মডিউল ডিজাইন করার জন্য হাত দিয়ে কাজ করার উপর জোর দেওয়া হয়। এবং কার্যকলাপ ও সার্ভের মাধ্যমে পরিবেশ ও স্বাস্থ্য বিষয়ে আরও শিখতে থাকে।

বিজ্ঞান শিক্ষক হিসাবে আপনি স্বীকার করবেন যে কার্যপদ্ধতি ও পরীক্ষার মাধ্যমে যদি শিক্ষার্থীরা অন্বেষণ করে তাহলে বিজ্ঞানের ধারণা আরও ভালভাবে শেখা যায়। ছাত্রদের প্রতিদিনের অভিজ্ঞতার মাধ্যমে অন্বেষণ করে বিজ্ঞান শেখার সুযোগ দেওয়া উচিত। অর্থপূর্ণ অনুসন্ধান আপনার শিক্ষার্থীদের (বিশেষভাবে দলে) নিয়ুক্ত করা উচিত - বিশেষ করে যে সমস্যাগুলি তারা তাৎপর্যপূর্ণ ও গুরুত্বপূর্ণ বলে মনে করে।

বিজ্ঞানের শিক্ষক হিসাবে আপনার উচিত শিক্ষক ও বন্ধুদের (peer) সাথে আলোচনায় উৎসাহ দেওয়া। আপনি ছাত্রদের সংবাদপত্র থেকে, পাড়ার জ্ঞানী ব্যক্তির কাছ থেকে এবং সমস্ত রকমের সহজলভ্য উৎস থেকে তথ্য সংগ্রহ করার জন্য এবং শ্রেণীকক্ষে সেইগুলি নিয়ে শ্রেণীর বন্ধু ও শিক্ষকদের সাথে আলোচনা করতে নির্দেশ দেবেন।

বৃহত্তর অংশগ্রহণ এবং শিখনের ফলাফল ভাগাভাগি নিশ্চিত করতে ভূমিকা পালন, ফ্লিট, সহযোগিতামূলক শিক্ষার কৌশল গ্রহণ করা উচিত। এটি পরামর্শ দেওয়া হয় যে বিজ্ঞানী এবং উদ্ভাবকদের জীবনীমূলক আখ্যান ব্যবহার করা যেতে পারে। আপনার স্বরণে রাখা উচিত যে, বিজ্ঞানের প্রক্রিয়া দক্ষতা বিকাশের জন্য প্রচেষ্টা রাখা উচিত।

বিভিন্ন প্রকার পারমাণবিক মডেল ব্যাখ্যা করার ক্ষেত্রে নিম্নলিখিতগুলির মধ্যে কোনটি যথাযথ শিক্ষণ-শিখন উপকরণ হবে ?

1. চার্ট
2. ছবি বা চিত্র
3. ভিডিও বা অ্যানিমেশন
4. ব্ল্যাক বোর্ড

Options :

485584146505. 1
485584146506. 2
485584146507. 3
485584146508. 4

Question Number : 243 Question Id : 48558436628 Question Type : MCQ Option Shuffling : No Is Question Mandatory : No Calculator : None Response Time : N.A Think Time : N.A Minimum Instruction Time : 0

Correct Marks : 5 Wrong Marks : 1

Question Key Details :

| Key | Value |
|---------------|-------|
| Comprehension | Comp1 |

At the upper primary level, the emphasis is on engaging the learner in learning principles of science through familiar experiences, working with hands to design simple technological units and modules and continuing to learn more on environment and health through activities and surveys.

As a science teacher, you will agree that scientific concepts are learnt better if learners explore them through activities and experiments. Learners should be given opportunity to explore science in their everyday experiences. You should engage learners (preferably in groups) in meaningful investigations - particularly of the problems they perceive to be significant and important.

As a science teacher, you should encourage discussions with the teacher and peers. You can ask your learners to gather information from newspapers, knowledgeable persons in the neighborhood, and from easily available sources and discuss about them in class with peers and teachers.

Role play, skits, cooperative learning strategies should be adopted to ensure larger participation and sharing of learning outcomes. It is advised that biographical narratives of scientists and inventors can be used. You should keep in mind that efforts should be continued for development of the process skills of science.

If a teacher is teaching types of sub-atomic particles and their charges, which could be the most appropriate tool for assesment?

1. Unit tests
2. Oral test
3. A field project
4. Crossword puzzle

Options :

- 485584146509. 1
- 485584146510. 2
- 485584146511. 3
- 485584146512. 4

Question Number : 243 Question Id : 48558436628 Question Type : MCQ Option Shuffling : No Is Question Mandatory : No Calculator : None Response Time : N.A Think Time : N.A Minimum Instruction Time : 0

Correct Marks : 5 Wrong Marks : 1

Question Key Details :

| Key | Value |
|---------------|-------|
| Comprehension | Comp1 |

উচ্চ প্রাথমিক স্তরে, শিক্ষার্থীকে পরিচিত অভিজ্ঞতার মাধ্যমে শিক্ষার্থীকে বিজ্ঞানের নীতিগুলি শেখার জন্য নিযুক্ত করার উপর; সহজ প্রযুক্তিগত ইউনিট ও মডিউল ডিজাইন করার জন্য হাত দিয়ে কাজ করার উপর জোর দেওয়া হয়। এবং কার্যকলাপ ও সার্ভের মাধ্যমে পরিবেশ ও স্বাস্থ্য বিষয়ে আরও শিখতে থাকে।

বিজ্ঞান শিক্ষক হিসাবে আপনি স্বীকার করবেন যে কার্যপদ্ধতি ও পরীক্ষার মাধ্যমে যদি শিক্ষার্থীরা অন্বেষণ করে তাহলে বিজ্ঞানের ধারণা আরও ভালভাবে শেখা যায়। ছাত্রদের প্রতিদিনের অভিজ্ঞতার মাধ্যমে অন্বেষণ করে বিজ্ঞান শেখার সুযোগ দেওয়া উচিত। অর্থপূর্ণ অনুসন্ধান আপনার শিক্ষার্থীদের (বিশেষভাবে দলে) নিযুক্ত করা উচিত - বিশেষ করে যে সমস্যাগুলি তারা তাৎপর্যপূর্ণ ও গুরুত্বপূর্ণ বলে মনে করে।

বিজ্ঞানের শিক্ষক হিসাবে আপনার উচিত শিক্ষক ও বন্ধুদের (peer) সাথে আলোচনায় উৎসাহ দেওয়া। আপনি ছাত্রদের সংবাদপত্র থেকে, পাড়ার জ্ঞানী ব্যক্তির কাছ থেকে এবং সমস্ত রকমের সহজলভ্য উৎস থেকে তথ্য সংগ্রহ করার জন্য এবং শ্রেণীকক্ষে সেইগুলি নিয়ে শ্রেণীর বন্ধু ও শিক্ষকদের সাথে আলোচনা করতে নির্দেশ দেবেন।

বৃহত্তর অংশগ্রহণ এবং শিখনের ফলাফল ভাগাভাগি নিশ্চিত করতে ভূমিকা পালন, ফ্রিট, সহযোগিতামূলক শিক্ষার কৌশল গ্রহণ করা উচিত। এটি পরামর্শ দেওয়া হয় যে বিজ্ঞানী এবং উদ্ভাবকদের জীবনীমূলক আখ্যান ব্যবহার করা যেতে পারে। আপনার স্বরণে রাখা উচিত যে, বিজ্ঞানের প্রক্রিয়া দক্ষতা বিকাশের জন্য প্রচেষ্টা রাখা উচিত।

যদি একজন শিক্ষক উপ-পারমাণবিক কণার ধরন ও তাদের চার্জ সম্বন্ধে শেখাতে চান, তাহলে মূল্যায়নের জন্য উপযুক্ত টুল কোনটি হবে ?

1. ইউনিট টেস্ট
2. মৌখিক পরীক্ষা
3. একটি ফিন্ড প্রজেক্ট
4. শব্দের ধাঁধা

Options :

485584146509. 1
485584146510. 2
485584146511. 3
485584146512. 4

Question Number : 244 Question Id : 48558436629 Question Type : MCQ Option Shuffling : No Is Question Mandatory : No Calculator : None Response Time : N.A Think Time : N.A Minimum Instruction Time : 0

Correct Marks : 5 Wrong Marks : 1

Question Key Details :

| Key | Value |
|---------------|-------|
| Comprehension | Comp1 |

At the upper primary level, the emphasis is on engaging the learner in learning principles of science through familiar experiences, working with hands to design simple technological units and modules and continuing to learn more on environment and health through activities and surveys.

As a science teacher, you will agree that scientific concepts are learnt better if learners explore them through activities and experiments. Learners should be given opportunity to explore science in their everyday experiences. You should engage learners (preferably in groups) in meaningful investigations - particularly of the problems they perceive to be significant and important.

As a science teacher, you should encourage discussions with the teacher and peers. You can ask your learners to gather information from newspapers, knowledgeable persons in the neighborhood, and from easily available sources and discuss about them in class with peers and teachers.

Role play, skits, cooperative learning strategies should be adopted to ensure larger participation and sharing of learning outcomes. It is advised that biographical narratives of scientists and inventors can be used. You should keep in mind that efforts should be continued for development of the process skills of science.

Which among the following objectives belongs to 'creating' cognitive process domain?

1. making a simple torch
2. explaining how a bulb glows
3. selecting suitable cell for torch
4. Indicating direction of flow of currents

Options :

- 485584146513. 1
- 485584146514. 2
- 485584146515. 3
- 485584146516. 4

Question Number : 244 Question Id : 48558436629 Question Type : MCQ Option Shuffling : No Is Question Mandatory : No Calculator : None Response Time : N.A Think Time : N.A Minimum Instruction Time : 0

Correct Marks : 5 Wrong Marks : 1

Question Key Details :

| Key | Value |
|---------------|-------|
| Comprehension | Comp1 |

উচ্চ প্রাথমিক স্তরে, শিক্ষার্থীকে পরিচিত অভিজ্ঞতার মাধ্যমে শিক্ষার্থীকে বিজ্ঞানের নীতিগুলি শেখার জন্য নিযুক্ত করার উপর; সহজ প্রযুক্তিগত ইউনিট ও মডিউল ডিজাইন করার জন্য হাত দিয়ে কাজ করার উপর জোর দেওয়া হয়। এবং কার্যকলাপ ও সার্ভের মাধ্যমে পরিবেশ ও স্বাস্থ্য বিষয়ে আরও শিখতে থাকে।

বিজ্ঞান শিক্ষক হিসাবে আপনি স্বীকার করবেন যে কার্যপদ্ধতি ও পরীক্ষার মাধ্যমে যদি শিক্ষার্থীরা অন্বেষণ করে তাহলে বিজ্ঞানের ধারণা আরও ভালভাবে শেখা যায়। ছাত্রদের প্রতিদিনের অভিজ্ঞতার মাধ্যমে অন্বেষণ করে বিজ্ঞান শেখার সুযোগ দেওয়া উচিত। অর্থপূর্ণ অনুসন্ধান আপনার শিক্ষার্থীদের (বিশেষভাবে দলে) নিযুক্ত করা উচিত - বিশেষ করে যে সমস্যাগুলি তারা তাৎপর্যপূর্ণ ও গুরুত্বপূর্ণ বলে মনে করে।

বিজ্ঞানের শিক্ষক হিসাবে আপনার উচিত শিক্ষক ও বন্ধুদের (peer) সাথে আলোচনায় উৎসাহ দেওয়া। আপনি ছাত্রদের সংবাদপত্র থেকে, পাড়ার জ্ঞানী ব্যক্তির কাছ থেকে এবং সমস্ত রকমের সহজলভ্য উৎস থেকে তথ্য সংগ্রহ করার জন্য এবং শ্রেণীকক্ষে সেইগুলি নিয়ে শ্রেণীর বন্ধু ও শিক্ষকদের সাথে আলোচনা করতে নির্দেশ দেবেন।

বৃহত্তর অংশগ্রহণ এবং শিখনের ফলাফল ভাগাভাগি নিশ্চিত করতে ভূমিকা পালন, ফ্লিট, সহযোগিতামূলক শিক্ষার কৌশল গ্রহণ করা উচিত। এটি পরামর্শ দেওয়া হয় যে বিজ্ঞানী এবং উদ্ভাবকদের জীবনীমূলক আখ্যান ব্যবহার করা যেতে পারে। আপনার স্বরণে রাখা উচিত যে, বিজ্ঞানের প্রক্রিয়া দক্ষতা বিকাশের জন্য প্রচেষ্টা রাখা উচিত।

নিম্নলিখিতগুলির মধ্যে কোনটি জ্ঞানমূলক প্রক্রিয়ার ডোমেনের 'সৃষ্টি'র অন্তর্গত

1. সাধারণ টর্চ নির্মান করা
2. বান্ধু কিতাবে আভা দেয় তার ব্যাখ্যা করে
3. টর্চের জন্য উপযুক্ত ব্যাটারী নির্বাচন করে
4. তড়িৎ প্রবাহের অভিমুখ নির্দেশ করে

Options :

485584146513. 1
485584146514. 2
485584146515. 3
485584146516. 4

Question Number : 245 Question Id : 48558436630 Question Type : MCQ Option Shuffling : No Is Question Mandatory : No Calculator : None Response Time : N.A Think Time : N.A Minimum Instruction Time : 0

Correct Marks : 5 Wrong Marks : 1

Question Key Details :

| Key | Value |
|---------------|-------|
| Comprehension | Comp1 |

At the upper primary level, the emphasis is on engaging the learner in learning principles of science through familiar experiences, working with hands to design simple technological units and modules and continuing to learn more on environment and health through activities and surveys.

As a science teacher, you will agree that scientific concepts are learnt better if learners explore them through activities and experiments. Learners should be given opportunity to explore science in their everyday experiences. You should engage learners (preferably in groups) in meaningful investigations - particularly of the problems they perceive to be significant and important.

As a science teacher, you should encourage discussions with the teacher and peers. You can ask your learners to gather information from newspapers, knowledgeable persons in the neighborhood, and from easily available sources and discuss about them in class with peers and teachers.

Role play, skits, cooperative learning strategies should be adopted to ensure larger participation and sharing of learning outcomes. It is advised that biographical narratives of scientists and inventors can be used. You should keep in mind that efforts should be continued for development of the process skills of science.

Which among the following is a teacher-centered objective?

1. Children identify different types of nutrition in plants.
2. Children explain various methods of getting nutrition in plants.
3. Teachers show images of autotrophic and heterotrophic nutrition
4. Teachers explain the definition of nutrition and make students memorize it.

Options :

- 485584146517. 1
- 485584146518. 2
- 485584146519. 3
- 485584146520. 4

Question Number : 245 Question Id : 48558436630 Question Type : MCQ Option Shuffling : No Is Question Mandatory : No Calculator : None Response Time : N.A Think Time : N.A Minimum Instruction Time : 0

Correct Marks : 5 Wrong Marks : 1

Question Key Details :

| Key | Value |
|---------------|-------|
| Comprehension | Comp1 |

উচ্চ প্রাথমিক স্তরে, শিক্ষার্থীকে পরিচিত অভিজ্ঞতার মাধ্যমে শিক্ষার্থীকে বিজ্ঞানের নীতিগুলি শেখার জন্য নিয়ুক্ত করার উপর; সহজ প্রযুক্তিগত ইউনিট ও মডিউল ডিজাইন করার জন্য হাত দিয়ে কাজ করার উপর জোর দেওয়া হয়। এবং কার্যকলাপ ও সার্ভের মাধ্যমে পরিবেশ ও স্বাস্থ্য বিষয়ে আরও শিখতে থাকে।

বিজ্ঞান শিক্ষক হিসাবে আপনি স্বীকার করবেন যে কার্যপদ্ধতি ও পরীক্ষার মাধ্যমে যদি শিক্ষার্থীরা অন্বেষণ করে তাহলে বিজ্ঞানের ধারণা আরও ভালভাবে শেখা যায়। ছাত্রদের প্রতিদিনের অভিজ্ঞতার মাধ্যমে অন্বেষণ করে বিজ্ঞান শেখার সুযোগ দেওয়া উচিত। অর্থপূর্ণ অনুসন্ধান আপনার শিক্ষার্থীদের (বিশেষভাবে দলে) নিয়ুক্ত করা উচিত - বিশেষ করে যে সমস্যাগুলি তারা তাৎপর্যপূর্ণ ও গুরুত্বপূর্ণ বলে মনে করে।

বিজ্ঞানের শিক্ষক হিসাবে আপনার উচিত শিক্ষক ও বন্ধুদের (peer) সাথে আলোচনায় উৎসাহ দেওয়া। আপনি ছাত্রদের সংবাদপত্র থেকে, পাড়ার জ্ঞানী ব্যক্তির কাছ থেকে এবং সমস্ত রকমের সহজলভ্য উৎস থেকে তথ্য সংগ্রহ করার জন্য এবং শ্রেণীকক্ষে সেইগুলি নিয়ে শ্রেণীর বন্ধু ও শিক্ষকদের সাথে আলোচনা করতে নির্দেশ দেবেন।

বৃহত্তর অংশগ্রহণ এবং শিখনের ফলাফল ভাগাভাগি নিশ্চিত করতে ভূমিকা পালন, ফ্রিট, সহযোগিতামূলক শিক্ষার কৌশল গ্রহণ করা উচিত। এটি পরামর্শ দেওয়া হয় যে বিজ্ঞানী এবং উদ্ভাবকদের জীবনীমূলক আখ্যান ব্যবহার করা যেতে পারে। আপনার স্বরণে রাখা উচিত যে, বিজ্ঞানের প্রক্রিয়া দক্ষতা বিকাশের জন্য প্রচেষ্টা রাখা উচিত।

নিম্নলিখিতের মধ্যে কোনটি শিক্ষক-কেন্দ্রিক লক্ষ্য ?

1. ছাত্রেরা উদ্ভিদের বিভিন্ন প্রকার পুষ্টি সনাক্ত করলো
2. ছাত্রেরা বিভিন্ন প্রকার উদ্ভিদের পুষ্টি প্রক্রিয়া ব্যাখ্যা করলো
3. স্বভোজী ও পরভোজী পুষ্টির ছবি দেখালেন শিক্ষক
4. শিক্ষক পুষ্টির সংজ্ঞা ব্যাখ্যা করলেন এবং ছাত্রদের এটা মুখস্থ করালেন

Options :

485584146517. 1
485584146518. 2
485584146519. 3
485584146520. 4

Sub-Section Number :

3

Sub-Section Id :

4855842704

Question Shuffling Allowed :

No

Is Section Default? :

null

Question Number : 246 Question Id : 48558436631 Question Type : MCQ Option Shuffling : No Is Question Mandatory : No Calculator : None Response Time : N.A Think Time : N.A Minimum Instruction Time : 0

Correct Marks : 5 Wrong Marks : 1

Question Key Details :

| Key | Value |
|---------------|-------|
| Comprehension | Comp2 |

The spider's web occupies a much larger space than does the animal itself. The web represents the spider's field of action in acting as a trap for insects. It is constructed according to a plan. A thread secreted by the spider joins two branches, two rocks, two supports of any kind; then he weaves the rays. The construction proceeds according to a plan. Finally the spider weaves the thread around the center, going around at an always very carefully calculated distance. If the points of support are close together, the web is small. The greater the distance of one from the other, the larger the web will be. But it will always be woven with the same exactness according to a precise plan.

As is the web, so is the mind of the child constructed according to an exact plan. The abstract construction enables him to grasp what happens in his field, which was out of his range heretofore.

Depending on whether the child lives in a simple civilisation or in a complicated world, his web will be more or less large and will enable him to attain more or fewer objectives.

This is why we must respect the interior construction and its manifestations, which may at times seem useless to us. The construction is necessary. It is thanks to this work that the child enlarges his psychic field and subsequently his receptive powers.

To consider the school as the place where instruction is given is one point of view. But to consider the school as a preparation for life is another. In the latter case the school must satisfy all the needs of life.

An education that suppresses the true nature of the child is an education that leads to the development of anomalies.

Scouting, which, outside of school, has brought an organised form of life to children, has therefore always interested us.

According to the passage, what is the significance of a spider's web to a child's education?

1. Education must be spread out in all domains.
2. Field-based learning is a crucial aspect of education.
3. The administrative web poses an impediment to education.
4. A child's mind is also constructed like a web.

Options :

- 485584146521. 1
- 485584146522. 2
- 485584146523. 3
- 485584146524. 4

Question Number : 246 Question Id : 48558436631 Question Type : MCQ Option Shuffling : No Is Question Mandatory : No Calculator : None Response Time : N.A Think Time : N.A Minimum Instruction Time : 0

Correct Marks : 5 Wrong Marks : 1

Question Key Details :

| Key | Value |
|---------------|-------|
| Comprehension | Comp2 |

মাকড়সার জাল প্রাণীটির চেয়ে অনেক বেশি জায়গা দখল করে। জালটি পোকামাকড় ধরার ফাঁদ হিসাবে কাজ করার ক্ষেত্রে মাকড়সার কর্মক্ষেত্রের প্রতিনিধিত্ব করে। এটি একটি পরিকল্পনা অনুযায়ী নির্মিত হয়। মাকড়সা দ্বারা নিঃসৃত একটি সুতো দুটি শাখা, দুটি শিলাখন্ড, দুটি যে কোন ধরনের অবলম্বনে সংযোগ ঘটায়। তারপর সে রশ্মিগুলি বোনে। নির্মাণটি একটি পরিকল্পনা অনুযায়ী এগোয়। অবশেষে মাকড়সা কেন্দ্রের চারিদিকে সুতা (প্রেড) বুনে। সবসময় খুব সাবধানে হিসাব করা দূরত্বে ঘুরতে থাকে। যদি অবলম্বনের পয়েন্টগুলি পরস্পর নিকটবর্তী হয়, তাহলে জালটি খুব ছোট হয়। একটির থেকে অন্যটির দূরত্ব যত বেশি হবে, জালটি তত বড় হবে। তবে সবসময় এটি একটি সুনির্দিষ্ট পরিকল্পনা অনুসারে সর্বদা একই নির্ভুলতার সাথে বোনা হবে।

মাকড়সার জালের মতন শিশুর মনও একটি সঠিক পরিকল্পনা অনুযায়ী তৈরী। বিমূর্ত নির্মাণ শিশুকে তার শিশু মনের জমিনে কি ঘটছে, তা বুঝতে সক্ষম করে, যা আগে তার পরিসরের বাইরে ছিল।

শিশুটি একটি সরল সভ্যতায় বা জটিল বিশ্বে বাস করছে তার উপর নির্ভর করে তার জাল কম বেশি বড় হবে এবং তাকে বেশি বা কম লক্ষ্য অর্জনে সমর্থ করবে।

এই কারণেই আমাদের অবশ্যই অভ্যন্তরীণ নির্মাণ ও এর প্রকাশকে সম্মান করতে হবে। যা কখনও কখনও আমাদের কাছে আকোজে মনে হতে পারে। যে কাজের মাধ্যমে শিশু তার মানসিক ক্ষেত্র এবং পরবর্তীকালে গ্রহণ ক্ষমতাকে প্রসারিত করে, সেই কাজকে ধন্যবাদ।

একটি দৃষ্টিকোণ অনুসারে, বিদ্যালয়কে এমন জায়গা হিসাবে বিবেচনা করা উচিত, যেখানে নির্দেশ দেওয়া হয়। কিন্তু বিদ্যালয়কে জীবনের প্রস্তুতি হিসাবে বিবেচনা করা অন্য রকম। পরবর্তী ক্ষেত্রে বিদ্যালয়কে অবশ্যই জীবনের সমস্ত চাহিদা পূরণ করতে হবে।

একটি শিক্ষা যা শিশুর প্রকৃত প্রকৃতিকে দমন করে, সেটি অসঙ্গতি গড়ে তোলার দিকে নিয়ে যায়।

স্ক্রাউটিং, যা, বিদ্যালয়ের বাইরে, শিশুদের জীবনের একটি সংগঠিত রূপ নিয়ে, তা সবসময় আমাদেরকে আগ্রহী করে তোলে।

এই অনুচ্ছেদ অনুসারে, শিশু শিক্ষায় মাকড়সার জালের তাৎপর্য কি?

1. শিক্ষা অবশ্যই সমস্ত ক্ষেত্রে ছড়িয়ে দিতে হবে
2. ক্ষেত্র ভিত্তিক শিক্ষা শিক্ষার একটি গুরুত্বপূর্ণ দিক
3. প্রশাসনিক জাল শিক্ষার প্রতিবন্ধকতা সৃষ্টি করে
4. একটি শিশুর মন সর্বদা মাকড়সার জালের মতো নির্মিত হয়

Options :

485584146521. 1
485584146522. 2
485584146523. 3
485584146524. 4

Question Number : 247 Question Id : 48558436632 Question Type : MCQ Option Shuffling : No Is Question Mandatory : No Calculator : None Response Time : N.A Think Time : N.A Minimum Instruction Time : 0

Correct Marks : 5 Wrong Marks : 1

Question Key Details :

| Key | Value |
|---------------|-------|
| Comprehension | Comp2 |

The spider's web occupies a much larger space than does the animal itself. The web represents the spider's field of action in acting as a trap for insects. It is constructed according to a plan. A thread secreted by the spider joins two branches, two rocks, two supports of any kind; then he weaves the rays. The construction proceeds according to a plan. Finally the spider weaves the thread around the center, going around at an always very carefully calculated distance. If the points of support are close together, the web is small. The greater the distance of one from the other, the larger the web will be. But it will always be woven with the same exactness according to a precise plan.

As is the web, so is the mind of the child constructed according to an exact plan. The abstract construction enables him to grasp what happens in his field, which was out of his range heretofore.

Depending on whether the child lives in a simple civilisation or in a complicated world, his web will be more or less large and will enable him to attain more or fewer objectives.

This is why we must respect the interior construction and its manifestations, which may at times seem useless to us. The construction is necessary. It is thanks to this work that the child enlarges his psychic field and subsequently his receptive powers.

To consider the school as the place where instruction is given is one point of view. But to consider the school as a preparation for life is another. In the latter case the school must satisfy all the needs of life.

An education that suppresses the true nature of the child is an education that leads to the development of anomalies.

Scouting, which, outside of school, has brought an organised form of life to children, has therefore always interested us.

Construction of child's mind is:

1. Independent of his context
2. dependent on school's context only
3. dependent on his context
4. dependent on his family's context only

Options :

- 485584146525. 1
- 485584146526. 2
- 485584146527. 3
- 485584146528. 4

Question Number : 247 Question Id : 48558436632 Question Type : MCQ Option Shuffling : No Is Question Mandatory : No Calculator : None Response Time : N.A Think Time : N.A Minimum Instruction Time : 0

Correct Marks : 5 Wrong Marks : 1

Question Key Details :

| Key | Value |
|---------------|-------|
| Comprehension | Comp2 |

মাকড়সার জাল প্রাণীটির চেয়ে অনেক বেশি জায়গা দখল করে। জালটি পোকামাকড় ধরার ফাঁদ হিসাবে কাজ করার ক্ষেত্রে মাকড়সার কর্মক্ষেত্রের প্রতিনিধিত্ব করে। এটি একটি পরিকল্পনা অনুযায়ী নির্মিত হয়। মাকড়সা দ্বারা নিঃসৃত একটি সুতো দুটি শাখা, দুটি শিলাখন্ড, দুটি যে কোন ধরনের অবলম্বনে সংযোগ ঘটায়। তারপর সে রশ্মিগুলি বোনে। নির্মাণটি একটি পরিকল্পনা অনুযায়ী এগোয়। অবশেষে মাকড়সা কেন্দ্রের চারিদিকে সুতা (প্রেড) বুনে। সবসময় খুব সাবধানে হিসাব করা দূরত্বে ঘুরতে থাকে। যদি অবলম্বনের পয়েন্টগুলি পরস্পর নিকটবর্তী হয়, তাহলে জালটি খুব ছোট হয়। একটির থেকে অন্যটির দূরত্ব যত বেশি হবে, জালটি তত বড় হবে। তবে সবসময় এটি একটি সুনির্দিষ্ট পরিকল্পনা অনুসারে সর্বদা একই নির্ভুলতার সাথে বোনা হবে।

মাকড়সার জালের মতন শিশুর মনও একটি সঠিক পরিকল্পনা অনুযায়ী তৈরী। বিমূর্ত নির্মাণ শিশুকে তার শিশু মনের জমিনে কি ঘটছে, তা বুঝতে সক্ষম করে, যা আগে তার পরিসরের বাইরে ছিল।

শিশুটি একটি সরল সভ্যতায় বা জটিল বিশ্বে বাস করছে তার উপর নির্ভর করে তার জাল কম বেশি বড় হবে এবং তাকে বেশি বা কম লক্ষ্য অর্জনে সমর্থ করবে।

এই কারণেই আমাদের অবশ্যই অভ্যন্তরীণ নির্মাণ ও এর প্রকাশকে সম্মান করতে হবে। যা কখনও কখনও আমাদের কাছে একেজো মনে হতে পারে। যে কাজের মাধ্যমে শিশু তার মানসিক ক্ষেত্র এবং পরবর্তীকালে গ্রহণ ক্ষমতাকে প্রসারিত করে, সেই কাজকে ধন্যবাদ।

একটি দৃষ্টিকোণ অনুসারে, বিদ্যালয়কে এমন জায়গা হিসাবে বিবেচনা করা উচিত, যেখানে নির্দেশ দেওয়া হয়। কিন্তু বিদ্যালয়কে জীবনের প্রস্তুতি হিসাবে বিবেচনা করা অন্য রকম। পরবর্তী ক্ষেত্রে বিদ্যালয়কে অবশ্যই জীবনের সমস্ত চাহিদা পূরণ করতে হবে।

একটি শিক্ষা যা শিশুর প্রকৃত প্রকৃতিকে দমন করে, সেটি অসঙ্গতি গড়ে তোলার দিকে নিয়ে যায়।

স্ক্রাউটিং, যা, বিদ্যালয়ের বাইরে, শিশুদের জীবনের একটি সংগঠিত রূপ নিয়ে, তা সবসময় আমাদেরকে আগ্রহী করে তোলে।

নীচে দুটি বিবৃতি দেওয়া আছে, একটি ঘোষণা হিসাবে চিহ্নিত এবং অপরটি কারণ হিসাবে চিহ্নিত -

ঘোষণা A: একটি শিশু যদি একটি সরলতর সভ্যতায় বাস করে, তাহলে শিশুর মন তাকে কম লক্ষ্য অর্জন করতে সক্ষম করবে

কারণ R: একটি শিশুর মনের গঠন পরিস্থিতির উপর নির্ভরশীল নয়

উপরের বিবৃতিগুলির পরিপ্রেক্ষিতে নিম্নে প্রদত্ত পছন্দগুলি থেকে সঠিক উত্তর বেছে নাও

1. A এবং R উভয়ই ঠিক এবং R হল A এর সঠিক ব্যাখ্যা
2. A এবং R উভয়ই ঠিক এবং R, A এর সঠিক ব্যাখ্যা নয়
3. A সঠিক, কিন্তু R ভুল
4. A ভুল, কিন্তু R সঠিক

Options :

485584146525. 1
485584146526. 2
485584146527. 3
485584146528. 4

Question Number : 248 Question Id : 48558436633 Question Type : MCQ Option Shuffling : No Is Question Mandatory : No Calculator : None Response Time : N.A Think Time : N.A Minimum Instruction Time : 0

Correct Marks : 5 Wrong Marks : 1

Question Key Details :

| Key | Value |
|---------------|-------|
| Comprehension | Comp2 |

The spider's web occupies a much larger space than does the animal itself. The web represents the spider's field of action in acting as a trap for insects. It is constructed according to a plan. A thread secreted by the spider joins two branches, two rocks, two supports of any kind; then he weaves the rays. The construction proceeds according to a plan. Finally the spider weaves the thread around the center, going around at an always very carefully calculated distance. If the points of support are close together, the web is small. The greater the distance of one from the other, the larger the web will be. But it will always be woven with the same exactness according to a precise plan.

As is the web, so is the mind of the child constructed according to an exact plan. The abstract construction enables him to grasp what happens in his field, which was out of his range heretofore.

Depending on whether the child lives in a simple civilisation or in a complicated world, his web will be more or less large and will enable him to attain more or fewer objectives.

This is why we must respect the interior construction and its manifestations, which may at times seem useless to us. The construction is necessary. It is thanks to this work that the child enlarges his psychic field and subsequently his receptive powers.

To consider the school as the place where instruction is given is one point of view. But to consider the school as a preparation for life is another. In the latter case the school must satisfy all the needs of life.

An education that suppresses the true nature of the child is an education that leads to the development of anomalies.

Scouting, which, outside of school, has brought an organised form of life to children, has therefore always interested us.

According to the passage, what should be the aim of education?

1. Nurture the true nature of a child.
2. Overpower the interior construction of a child's mind.
3. Restrict a child's psychic field and promote scientific temperament.
4. Provide instruction and enable the child's participation in the economy.

Options :

485584146529. 1

485584146530. 2

485584146531. 3

485584146532. 4

Question Number : 248 Question Id : 48558436633 Question Type : MCQ Option Shuffling : No Is Question Mandatory : No Calculator : None Response Time : N.A Think Time : N.A Minimum Instruction Time : 0

Correct Marks : 5 Wrong Marks : 1

Question Key Details :

| Key | Value |
|---------------|-------|
| Comprehension | Comp2 |

মাকড়সার জাল প্রাণীটির চেয়ে অনেক বেশি জায়গা দখল করে। জালটি পোকামাকড় ধরার ফাঁদ হিসাবে কাজ করার ক্ষেত্রে মাকড়সার কর্মক্ষেত্রের প্রতিনিধিত্ব করে। এটি একটি পরিকল্পনা অনুযায়ী নির্মিত হয়। মাকড়সা দ্বারা নিঃসৃত একটি সুতো দুটি শাখা, দুটি শিলাখন্ড, দুটি যে কোন ধরনের অবলম্বনে সংযোগ ঘটায়। তারপর সে রশ্মিগুলি বোনে। নির্মাণটি একটি পরিকল্পনা অনুযায়ী এগোয়। অবশেষে মাকড়সা কেন্দ্রের চারিদিকে সুতা (প্রেড) বুনে। সবসময় খুব সাবধানে হিসাব করা দূরত্বে ঘুরতে থাকে। যদি অবলম্বনের পয়েন্টগুলি পরস্পর নিকটবর্তী হয়, তাহলে জালটি খুব ছোট হয়। একটির থেকে অন্যটির দূরত্ব যত বেশি হবে, জালটি তত বড় হবে। তবে সবসময় এটি একটি সুনির্দিষ্ট পরিকল্পনা অনুসারে সর্বদা একই নির্ভুলতার সাথে বোনা হবে।

মাকড়সার জালের মতন শিশুর মনও একটি সঠিক পরিকল্পনা অনুযায়ী তৈরী। বিমূর্ত নির্মাণ শিশুকে তার শিশু মনের জমিনে কি ঘটছে, তা বুঝতে সক্ষম করে, যা আগে তার পরিসরের বাইরে ছিল।

শিশুটি একটি সরল সভ্যতায় বা জটিল বিশ্বে বাস করছে তার উপর নির্ভর করে তার জাল কম বেশি বড় হবে এবং তাকে বেশি বা কম লক্ষ্য অর্জনে সমর্থ করবে।

এই কারণেই আমাদের অবশ্যই অভ্যন্তরীণ নির্মাণ ও এর প্রকাশকে সম্মান করতে হবে। যা কখনও কখনও আমাদের কাছে অকেজো মনে হতে পারে। যে কাজের মাধ্যমে শিশু তার মানসিক ক্ষেত্র এবং পরবর্তীকালে গ্রহণ ক্ষমতাকে প্রসারিত করে, সেই কাজকে ধন্যবাদ।

একটি দৃষ্টিকোণ অনুসারে, বিদ্যালয়কে এমন জায়গা হিসাবে বিবেচনা করা উচিত, যেখানে নির্দেশ দেওয়া হয়। কিন্তু বিদ্যালয়কে জীবনের প্রস্তুতি হিসাবে বিবেচনা করা অন্য রকম। পরবর্তী ক্ষেত্রে বিদ্যালয়কে অবশ্যই জীবনের সমস্ত চাহিদা পূরণ করতে হবে।

একটি শিক্ষা যা শিশুর প্রকৃত প্রকৃতিকে দমন করে, সেটি অসঙ্গতি গড়ে তোলার দিকে নিয়ে যায়।

স্ক্রাউটিং, যা, বিদ্যালয়ের বাইরে, শিশুদের জীবনের একটি সংগঠিত রূপ নিয়ে, তা সবসময় আমাদেরকে আগ্রহী করে তোলে।

এই অনুচ্ছেদ অনুসারে, শিক্ষার লক্ষ্য কি হওয়া উচিত ?

1. একটি শিশুর প্রকৃত প্রকৃতি লালন পালন
2. একটি শিশুর মনের অভ্যন্তরীণ নির্মাণকে পরাভূত করা
3. একটি শিশুর মানসিক ক্ষেত্র সীমাবদ্ধকরণ ও বৈজ্ঞানিক মনোভাব গড়ে তোলতে সাহায্য করে
4. নির্দেশ প্রদান করা এবং অর্থনৈতিক বিষয়ে শিশুকে সক্ষম করে তোলা

Options :

485584146529. 1
485584146530. 2
485584146531. 3
485584146532. 4

Question Number : 249 Question Id : 48558436634 Question Type : MCQ Option Shuffling : No Is Question Mandatory : No Calculator : None Response Time : N.A Think Time : N.A Minimum Instruction Time : 0

Correct Marks : 5 Wrong Marks : 1

Question Key Details :

| Key | Value |
|---------------|-------|
| Comprehension | Comp2 |

The spider's web occupies a much larger space than does the animal itself. The web represents the spider's field of action in acting as a trap for insects. It is constructed according to a plan. A thread secreted by the spider joins two branches, two rocks, two supports of any kind; then he weaves the rays. The construction proceeds according to a plan. Finally the spider weaves the thread around the center, going around at an always very carefully calculated distance. If the points of support are close together, the web is small. The greater the distance of one from the other, the larger the web will be. But it will always be woven with the same exactness according to a precise plan.

As is the web, so is the mind of the child constructed according to an exact plan. The abstract construction enables him to grasp what happens in his field, which was out of his range heretofore.

Depending on whether the child lives in a simple civilisation or in a complicated world, his web will be more or less large and will enable him to attain more or fewer objectives.

This is why we must respect the interior construction and its manifestations, which may at times seem useless to us. The construction is necessary. It is thanks to this work that the child enlarges his psychic field and subsequently his receptive powers.

To consider the school as the place where instruction is given is one point of view. But to consider the school as a preparation for life is another. In the latter case the school must satisfy all the needs of life.

An education that suppresses the true nature of the child is an education that leads to the development of anomalies.

Scouting, which, outside of school, has brought an organised form of life to children, has therefore always interested us.

In the author's view, what does a limited perspective of education do to a child?

1. Enables him to grasp concepts easily.
2. Helps him to attain more objectives.
3. Suppresses his true nature.
4. Encourages his thinking abilities.

Options :

- 485584146533. 1
- 485584146534. 2
- 485584146535. 3
- 485584146536. 4

Question Number : 249 Question Id : 48558436634 Question Type : MCQ Option Shuffling : No Is Question Mandatory : No Calculator : None Response Time : N.A Think Time : N.A Minimum Instruction Time : 0

Correct Marks : 5 Wrong Marks : 1

Question Key Details :

| Key | Value |
|---------------|-------|
| Comprehension | Comp2 |

মাকড়সার জাল প্রাণীটির চেয়ে অনেক বেশি জায়গা দখল করে। জালটি পোকামাকড় ধরার ফাঁদ হিসাবে কাজ করার ক্ষেত্রে মাকড়সার কর্মক্ষেত্রের প্রতিনিধিত্ব করে। এটি একটি পরিকল্পনা অনুযায়ী নির্মিত হয়। মাকড়সা দ্বারা নিঃসৃত একটি সুতো দুটি শাখা, দুটি শিলাখন্ড, দুটি যে কোন ধরনের অবলম্বনে সংযোগ ঘটায়। তারপর সে রশ্মিগুলি বোনে। নির্মাণটি একটি পরিকল্পনা অনুযায়ী এগোয়। অবশেষে মাকড়সা কেন্দ্রের চারিদিকে সুতা (প্রেড) বুনে। সবসময় খুব সাবধানে হিসাব করা দুরত্বে ঘুরতে থাকে। যদি অবলম্বনের পয়েন্টগুলি পরস্পর নিকটবর্তী হয়, তাহলে জালটি খুব ছোট হয়। একটির থেকে অন্যটির দুরত্ব যত বেশি হবে, জালটি তত বড় হবে। তবে সবসময় এটি একটি সুনির্দিষ্ট পরিকল্পনা অনুসারে সর্বদা একই নির্ভুলতার সাথে বোনা হবে।

মাকড়সার জালের মতন শিশুর মনও একটি সঠিক পরিকল্পনা অনুযায়ী তৈরী। বিমূর্ত নির্মাণ শিশুকে তার শিশু মনের জমিনে কি ঘটছে, তা বুঝতে সক্ষম করে, যা আগে তার পরিসরের বাইরে ছিল।

শিশুটি একটি সরল সভ্যতায় বা জটিল বিশ্বে বাস করছে তার উপর নির্ভর করে তার জাল কম বেশি বড় হবে এবং তাকে বেশি বা কম লক্ষ্য অর্জনে সমর্থ করবে।

এই কারণেই আমাদের অবশ্যই অভ্যন্তরীণ নির্মাণ ও এর প্রকাশকে সম্মান করতে হবে। যা কখনও কখনও আমাদের কাছে অকেজো মনে হতে পারে। যে কাজের মাধ্যমে শিশু তার মানসিক ক্ষেত্র এবং পরবর্তীকালে গ্রহণ ক্ষমতাকে প্রসারিত করে, সেই কাজকে ধন্যবাদ।

একটি দৃষ্টিকোণ অনুসারে, বিদ্যালয়কে এমন জায়গা হিসাবে বিবেচনা করা উচিত, যেখানে নির্দেশ দেওয়া হয়। কিন্তু বিদ্যালয়কে জীবনের প্রস্তুতি হিসাবে বিবেচনা করা অন্য রকম। পরবর্তী ক্ষেত্রে বিদ্যালয়কে অবশ্যই জীবনের সমস্ত চাহিদা পূরণ করতে হবে।

একটি শিক্ষা যা শিশুর প্রকৃত প্রকৃতিকে দমন করে, সেটি অসঙ্গতি গড়ে তোলার দিকে নিয়ে যায়।

স্ক্রাউটিং, যা, বিদ্যালয়ের বাইরে, শিশুদের জীবনের একটি সংগঠিত রূপ নিয়ে, তা সবসময় আমাদেরকে আগ্রহী করে তোলে।

লেখকের মতে শিক্ষার সীমিত দৃষ্টিভঙ্গি একটি শিশুর জন্য কি করে ?

1. ধারণাগুলি সহজে আয়ত্ত করতে সক্ষম হয়
2. আরও বেশি লক্ষ্য অর্জনে সাহায্য করে
3. আসল প্রকৃতিকে দমন করে
4. তার চিন্তন ক্ষমতাকে উৎসাহিত করে

Options :

485584146533. 1
485584146534. 2
485584146535. 3
485584146536. 4

Question Number : 250 Question Id : 48558436635 Question Type : MCQ Option Shuffling : No Is Question Mandatory : No Calculator : None Response Time : N.A Think Time : N.A Minimum Instruction Time : 0

Correct Marks : 5 Wrong Marks : 1

Question Key Details :

| Key | Value |
|---------------|-------|
| Comprehension | Comp2 |

The spider's web occupies a much larger space than does the animal itself. The web represents the spider's field of action in acting as a trap for insects. It is constructed according to a plan. A thread secreted by the spider joins two branches, two rocks, two supports of any kind; then he weaves the rays. The construction proceeds according to a plan. Finally the spider weaves the thread around the center, going around at an always very carefully calculated distance. If the points of support are close together, the web is small. The greater the distance of one from the other, the larger the web will be. But it will always be woven with the same exactness according to a precise plan.

As is the web, so is the mind of the child constructed according to an exact plan. The abstract construction enables him to grasp what happens in his field, which was out of his range heretofore.

Depending on whether the child lives in a simple civilisation or in a complicated world, his web will be more or less large and will enable him to attain more or fewer objectives.

This is why we must respect the interior construction and its manifestations, which may at times seem useless to us. The construction is necessary. It is thanks to this work that the child enlarges his psychic field and subsequently his receptive powers.

To consider the school as the place where instruction is given is one point of view. But to consider the school as a preparation for life is another. In the latter case the school must satisfy all the needs of life.

An education that suppresses the true nature of the child is an education that leads to the development of anomalies.

Scouting, which, outside of school, has brought an organised form of life to children, has therefore always interested us.

Which of the following are characteristics of the construction of a child's mind ?

- A. Moving outside the school restricts a child's mind.
- B. A child's mind is constructed according to a precise plan.
- C. Organisation of a child's mind may affect its receptive abilities.
- D. Inhibiting a child's true nature can lead to the development of abnormality.
- E. Concrete construction enables it to access different kinds of knowledge.

Choose the correct answer from the options given below:

- 1. A, C and D only
- 2. A, B and C only
- 3. B, C and D only
- 4. B, C, D and E only

Options :

- 485584146537. 1
- 485584146538. 2
- 485584146539. 3
- 485584146540. 4

Question Number : 250 Question Id : 48558436635 Question Type : MCQ Option Shuffling : No Is Question Mandatory : No Calculator : None Response Time : N.A Think Time : N.A Minimum Instruction Time : 0

Correct Marks : 5 Wrong Marks : 1

Question Key Details :

| Key | Value |
|---------------|-------|
| Comprehension | Comp2 |

মাকড়সার জাল প্রাণীটির চেয়ে অনেক বেশি জায়গা দখল করে। জালটি পোকামাকড় ধরার ফাঁদ হিসাবে কাজ করার ক্ষেত্রে মাকড়সার কর্মক্ষেত্রের প্রতিনিধিত্ব করে। এটি একটি পরিকল্পনা অনুযায়ী নির্মিত হয়। মাকড়সা দ্বারা নিঃসৃত একটি সুতো দুটি শাখা, দুটি শিলাখন্ড, দুটি যে কোন ধরনের অবলম্বনে সংযোগ ঘটায়। তারপর সে রশ্মিগুলি বোনে। নির্মাণটি একটি পরিকল্পনা অনুযায়ী এগোয়। অবশেষে মাকড়সা কেন্দ্রের চারিদিকে সুতা (প্রেড) বুনে। সবসময় খুব সাবধানে হিসাব করা দূরত্বে ঘুরতে থাকে। যদি অবলম্বনের পয়েন্টগুলি পরস্পর নিকটবর্তী হয়, তাহলে জালটি খুব ছোট হয়। একটির থেকে অন্যটির দূরত্ব যত বেশি হবে, জালটি তত বড় হবে। তবে সবসময় এটি একটি সুনির্দিষ্ট পরিকল্পনা অনুসারে সর্বদা একই নির্ভুলতার সাথে বোনা হবে।

মাকড়সার জালের মতন শিশুর মনও একটি সঠিক পরিকল্পনা অনুযায়ী তৈরী। বিমূর্ত নির্মাণ শিশুকে তার শিশু মনের জন্মিনে কি ঘটছে, তা বুঝতে সক্ষম করে, যা আগে তার পরিসরের বাইরে ছিল।

শিশুটি একটি সরল সত্যতায় বা জটিল বিশ্বে বাস করছে তার উপর নির্ভর করে তার জাল কম বেশি বড় হবে এবং তাকে বেশি বা কম লক্ষ্য অর্জনে সমর্থ করবে।

এই কারণেই আমাদের অবশ্যই অভ্যন্তরীণ নির্মাণ ও এর প্রকাশকে সম্মান করতে হবে। যা কখনও কখনও আমাদের কাছে অকেজো মনে হতে পারে। যে কাজের মাধ্যমে শিশু তার মানসিক ক্ষেত্র এবং পরবর্তীকালে গ্রহণ ক্ষমতাকে প্রসারিত করে, সেই কাজকে ধন্যবাদ।

একটি দৃষ্টিকোণ অনুসারে, বিদ্যালয়কে এমন জায়গা হিসাবে বিবেচনা করা উচিত, যেখানে নির্দেশ দেওয়া হয়। কিন্তু বিদ্যালয়কে জীবনের প্রস্তুতি হিসাবে বিবেচনা করা অন্য রকম। পরবর্তী ক্ষেত্রে বিদ্যালয়কে অবশ্যই জীবনের সমস্ত চাহিদা পূরণ করতে হবে।

একটি শিক্ষা যা শিশুর প্রকৃত প্রকৃতিকে দমন করে, সেটি অসঙ্গতি গড়ে তোলার দিকে নিয়ে যায়।

স্কাউটিং, যা, বিদ্যালয়ের বাইরে, শিশুদের জীবনের একটি সংগঠিত রূপ নিয়ে, তা সবসময় আমাদেরকে আগ্রহী করে তোলে।

নিম্নলিখিতগুলির মধ্যে কোনগুলি শিশুর মন নির্মাণের বৈশিষ্ট্য ?

- বিদ্যালয়ের বাইরে যাওয়া শিশুর মনকে সীমাবদ্ধ করে
- একটি শিশুর মন একটি সুনির্দিষ্ট পরিকল্পনা অনুসারে নির্মিত হয়
- একটি শিশুর মনের সংগঠন তার গ্রহণ করার ক্ষমতাকে প্রভাবিত করতে পারে
- শিশুর আসল প্রকৃতিকে বাধা দান করলে অস্বাভাবিকতা গড়ে তোলার দিকে চালিত করতে পারে
- প্রকৃত নির্মাণ বিভিন্ন ধরনের জ্ঞান আহরণ করতে সক্ষম করে

নীচের পছন্দগুলি থেকে সঠিক উত্তর বেছে নাও:

- কেবলমাত্র A, C এবং D
- কেবলমাত্র A, B এবং C
- কেবলমাত্র B, C এবং D
- কেবলমাত্র B, C, D এবং E

Options :

485584146537. 1

485584146538. 2

485584146539.3

485584146540.4