

National Testing Agency

Question Paper Name : 22S3
Subject Name : 22Jun2023 Shift3 Subject Combination 1
Creation Date : 2023-06-22 20:03:07
Duration : 270
Total Marks : 1200
Display Marks: Yes

Tibetan

Group Number : 1
Group Id : 485584821
Group Maximum Duration : 45
Group Minimum Duration : 45
Show Attended Group? : No
Edit Attended Group? : No
Break time : 0
Group Marks : 200
Is this Group for Examiner? : No
Examiner permission : Cant View
Show Progress Bar? : No

Tibetan

Section Id : 485584945
Section Number : 1
Section type : Online
Mandatory or Optional : Mandatory
Number of Questions : 50
Number of Questions to be attempted : 40
Section Marks : 200
Enable Mark as Answered Mark for Review and Clear Response : Yes
Maximum Instruction Time : 0
Sub-Section Number : 1
Sub-Section Id : 4855842686
Question Shuffling Allowed : No
Is Section Default? : null
Sub-Section Number : 2
Sub-Section Id : 4855842687
Question Shuffling Allowed : No
Is Section Default? : null
Sub-Section Number : 3
Sub-Section Id : 4855842688
Question Shuffling Allowed : No
Is Section Default? : null
Sub-Section Number : 4
Sub-Section Id : 4855842689
Question Shuffling Allowed : Yes

Is Section Default? : null

Biology

Group Number : 2
Group Id : 485584822
Group Maximum Duration : 45
Group Minimum Duration : 45
Show Attended Group? : No
Edit Attended Group? : No
Break time : 0
Group Marks : 200
Is this Group for Examiner? : No
Examiner permission : Cant View
Show Progress Bar? : No

Biology

Section Id : 485584946
Section Number : 1
Section type : Online
Mandatory or Optional : Mandatory
Number of Questions : 50
Number of Questions to be attempted : 40
Section Marks : 200
Enable Mark as Answered Mark for Review and Clear Response : Yes
Maximum Instruction Time : 0
Sub-Section Number : 1
Sub-Section Id : 4855842690
Question Shuffling Allowed : Yes
Is Section Default? : null

Question Number : 1 Question Id : 48558436386 Question Type : MCQ Option Shuffling : No Is Question Mandatory : No
Calculator : None Response Time : N.A Think Time : N.A Minimum Instruction Time : 0

Correct Marks : 5 Wrong Marks : 1

Question Key Details :

Key	Value
Comprehension	MCQ

Number of chromosomes found in rice gamete is:

1. 8
2. 10
3. 12
4. 14

Options :

485584145541. 1
485584145542. 2
485584145543. 3

Question Number : 1 Question Id : 48558436386 Question Type : MCQ Option Shuffling : No Is Question Mandatory : No Calculator : None Response Time : N.A Think Time : N.A Minimum Instruction Time : 0

Correct Marks : 5 Wrong Marks : 1

Question Key Details :

Key	Value
Comprehension	MCQ

ચોખાના જન્મમાં રેખાસૂત્રોની સંખ્યા આટલી હોય છે.

1. 8
2. 10
3. 12
4. 14

Options :

485584145541. 1
485584145542. 2
485584145543. 3
485584145544. 4

Question Number : 2 Question Id : 48558436387 Question Type : MCQ Option Shuffling : No Is Question Mandatory : No Calculator : None Response Time : N.A Think Time : N.A Minimum Instruction Time : 0

Correct Marks : 5 Wrong Marks : 1

Question Key Details :

Key	Value
Comprehension	MCQ

Match List I with List II

LIST I (Vegetative propagules)		LIST II (Example)	
A.	Leaf buds	I.	Water hyacinth
B.	Rhizome	II.	Agave
C.	Offset	III.	Ginger
D.	Bulbil	IV.	Bryophyllum

Choose the correct answer from the options given below:

1. A-III, B-IV, C-II, D-I
2. A-II, B-IV, C-I, D-III
3. A-IV, B-III, C-I, D-II
4. A-III, B-II, C-IV, D-I

Options :

485584145545. 1
485584145546. 2
485584145547. 3

485584145548. 4

Question Number : 2 Question Id : 48558436387 Question Type : MCQ Option Shuffling : No Is Question Mandatory : No Calculator : None Response Time : N.A Think Time : N.A Minimum Instruction Time : 0

Correct Marks : 5 Wrong Marks : 1

Question Key Details :

Key	Value
Comprehension	MCQ

સૂચિ I ને સૂચિ II સાથે જોડો.

સૂચિ I (વાનસ્પતિક પ્રસર્જકો)	સૂચિ II (ઉદાહરણ)
A. પર્ણીય કલિકાઓ	I. જળકુંભિ
B. પાંદડામૂળો	II. અગેવ
C. શુસ્તારિકા	III. આફ
D. પ્રકલિકા	IV. બ્રાયોફાયટમ(પાનકૂટો)

નીચે આપેલા વિકલ્પોમાંથી સાચો જવાબ પસંદ કરો.

1. A-III, B-IV, C-II, D-I
2. A-II, B-IV, C-I, D-III
3. A-IV, B-III, C-I, D-II
4. A-III, B-II, C-IV, D-I

Options :

485584145545. 1
485584145546. 2
485584145547. 3
485584145548. 4

Question Number : 3 Question Id : 48558436388 Question Type : MCQ Option Shuffling : No Is Question Mandatory : No Calculator : None Response Time : N.A Think Time : N.A Minimum Instruction Time : 0

Correct Marks : 5 Wrong Marks : 1

Question Key Details :

Key	Value
Comprehension	MCQ

Residual and persistent nucellus present in some seeds is called:

1. Seed coat
2. Pericarp
3. Perisperm
4. Achene

Options :

485584145549. 1
485584145550. 2

485584145551. 3

485584145552. 4

Question Number : 3 Question Id : 48558436388 Question Type : MCQ Option Shuffling : No Is Question Mandatory : No Calculator : None Response Time : N.A Think Time : N.A Minimum Instruction Time : 0

Correct Marks : 5 Wrong Marks : 1

Question Key Details :

Key	Value
Comprehension	MCQ

કેટલાક બીજમાં અવશેરુપ અને ચિરસ્થાયી પ્રદેહ જોવા મળ છે તેને કહે છે:

1. બીજાવરણ
2. ફલાવરણ
3. બીજદેહશેષ
4. એકીન

Options :

485584145549. 1

485584145550. 2

485584145551. 3

485584145552. 4

Question Number : 4 Question Id : 48558436389 Question Type : MCQ Option Shuffling : No Is Question Mandatory : No Calculator : None Response Time : N.A Think Time : N.A Minimum Instruction Time : 0

Correct Marks : 5 Wrong Marks : 1

Question Key Details :

Key	Value
Comprehension	MCQ

The wall layer which provides nourishment to the developing pollen grains is called:

1. Epidermis
2. Endothecium
3. Middle Layer
4. Tapetum

Options :

485584145553. 1

485584145554. 2

485584145555. 3

485584145556. 4

Question Number : 4 Question Id : 48558436389 Question Type : MCQ Option Shuffling : No Is Question Mandatory : No Calculator : None Response Time : N.A Think Time : N.A Minimum Instruction Time : 0

Correct Marks : 5 Wrong Marks : 1

Question Key Details :

Key	Value
Comprehension	MCQ

વિકાસ પામતી પરાગરજને પોષણ પૂરું પાડતા દિવાલના સ્તરને કહે છે.

1. અધિસ્તર
2. અંતઃ સ્તર (Endothecium)
3. મધ્ય સ્તર
4. પોષકસ્તર

Options :

485584145553. 1
485584145554. 2
485584145555. 3
485584145556. 4

Question Number : 5 Question Id : 48558436390 Question Type : MCQ Option Shuffling : No Is Question Mandatory : No Calculator : None Response Time : N.A Think Time : N.A Minimum Instruction Time : 0

Correct Marks : 5 Wrong Marks : 1

Question Key Details :

Key	Value
Comprehension	MCQ

Spermiation is the _____.

1. Process of release of sperms from the seminiferous tubules
2. Process of formation of sperms
3. Transformation of spermatids into sperms
4. Process of formation of spermatogonia

Options :

485584145557. 1
485584145558. 2
485584145559. 3
485584145560. 4

Question Number : 5 Question Id : 48558436390 Question Type : MCQ Option Shuffling : No Is Question Mandatory : No Calculator : None Response Time : N.A Think Time : N.A Minimum Instruction Time : 0

Correct Marks : 5 Wrong Marks : 1

Question Key Details :

Key	Value
Comprehension	MCQ

સ્પર્માયેશન _____ છે.

1. શુક્રોત્પાદક નલિકાઓમાંથી શુક્રકોષો મુક્ત થવાની ક્રિયા
2. શુક્રકોષનિ નિર્માની ક્રિયા
3. સ્પર્મેટોઇડ્સ (પૂર્વ શુક્રકોષો) નું શુક્રકોષોમાં રૂપાંતરણ
4. સ્પર્મેટોગોનીયન આદિશુક્રકોષો નિર્માણની પ્રક્રિયા

Options :

485584145557. 1
485584145558. 2
485584145559. 3
485584145560. 4

Question Number : 6 Question Id : 48558436391 Question Type : MCQ Option Shuffling : No Is Question Mandatory : No Calculator : None Response Time : N.A Think Time : N.A Minimum Instruction Time : 0

Correct Marks : 5 Wrong Marks : 1

Question Key Details :

Key	Value
Comprehension	MCQ

Which of the following hormones are secreted by placenta?

- A. hCG
- B. hPL
- C. Estrogens
- D. Progestogens
- E. Relaxin

Choose the correct answer from the options given below:

1. A, B, and E only
2. A, B, C and E only
3. A, B, D and E only
4. A, B, C and D only

Options :

485584145561. 1
485584145562. 2
485584145563. 3
485584145564. 4

Question Number : 6 Question Id : 48558436391 Question Type : MCQ Option Shuffling : No Is Question Mandatory : No Calculator : None Response Time : N.A Think Time : N.A Minimum Instruction Time : 0

Correct Marks : 5 Wrong Marks : 1

Question Key Details :

Key	Value
Comprehension	MCQ

નીચેના પૈકી અંતઃસ્રાવનો સ્રાવ જરાયુમાંથી થાય છે ?

- A. hCG
- B. hPL
- C. Estrogens
- D. Progestogens
- E. Relaxin

નીચે આપેલા વિકલ્પોમાંથી સાચો જવાબ પસંદ કરો.

1. માત્ર A, B અને E
2. માત્ર A, B અને E
3. માત્ર A, B, D અને E
4. માત્ર A, B, C અને D

Options :

- 485584145561. 1
- 485584145562. 2
- 485584145563. 3
- 485584145564. 4

Question Number : 7 Question Id : 48558436392 Question Type : MCQ Option Shuffling : No Is Question Mandatory : No Calculator : None Response Time : N.A Think Time : N.A Minimum Instruction Time : 0

Correct Marks : 5 Wrong Marks : 1

Question Key Details :

Key	Value
Comprehension	MCQ

Which of the following disease is completely curable if detected early?

1. Genital herpes
2. HIV infections
3. Hepatitis-B
4. Trichomoniasis

Options :

- 485584145565. 1
- 485584145566. 2
- 485584145567. 3
- 485584145568. 4

Question Number : 7 Question Id : 48558436392 Question Type : MCQ Option Shuffling : No Is Question Mandatory : No Calculator : None Response Time : N.A Think Time : N.A Minimum Instruction Time : 0

Correct Marks : 5 Wrong Marks : 1

Question Key Details :

Key	Value
Comprehension	MCQ

જો વહેવા નિદાન થાય તો નીચેના પૈકીનો કયો રોગ સંપૂર્ણપણે સાધ્ય છે ?

1. જનનાંગીય હર્પિસ
2. HIV નો ચેપ
3. હિપેટાઈટિસ-બ
4. ટ્રાયકોમોનિએસિસ

Options :

485584145565. 1
485584145566. 2
485584145567. 3
485584145568. 4

Question Number : 8 Question Id : 48558436393 Question Type : MCQ Option Shuffling : No Is Question Mandatory : No Calculator : None Response Time : N.A Think Time : N.A Minimum Instruction Time : 0

Correct Marks : 5 Wrong Marks : 1

Question Key Details :

Key	Value
Comprehension	MCQ

Identify the terminal methods to prevent pregnancy:

- A. Tubectomy
- B. Vasectomy
- C. IUDs
- D. Cervical caps

Choose the correct answer from the options given below:

1. A and D only
2. A and C only
3. B and D only
4. A and B only

Options :

485584145569. 1
485584145570. 2
485584145571. 3
485584145572. 4

Question Number : 8 Question Id : 48558436393 Question Type : MCQ Option Shuffling : No Is Question Mandatory : No Calculator : None Response Time : N.A Think Time : N.A Minimum Instruction Time : 0

Correct Marks : 5 Wrong Marks : 1

Question Key Details :

Key	Value
Comprehension	MCQ

જર્ભાધાનને અટકાવવાની અંતિમ પધ્ધતિઓને ઓળખો.

- A. Tubectomy
- B. Vasectomy
- C. IUDs
- D. Cervical caps

નીચે આપેલા વિકલ્પોમાંથી સાચો જવાબ પસંદ કરો.

1. માત્ર A અને D
2. માત્ર A અને C
3. માત્ર B અને D
4. માત્ર A અને B

Options :

- 485584145569. 1
- 485584145570. 2
- 485584145571. 3
- 485584145572. 4

Question Number : 9 Question Id : 48558436394 Question Type : MCQ Option Shuffling : No Is Question Mandatory : No Calculator : None Response Time : N.A Think Time : N.A Minimum Instruction Time : 0

Correct Marks : 5 Wrong Marks : 1

Question Key Details :

Key	Value
Comprehension	MCQ

The person with karyotype $44+XXY$ is suffering from:

1. Down's Syndrome
2. Klinefelter's Syndrome
3. Turner's Syndrome
4. Edward's Syndrome

Options :

- 485584145573. 1
- 485584145574. 2
- 485584145575. 3
- 485584145576. 4

Question Number : 9 Question Id : 48558436394 Question Type : MCQ Option Shuffling : No Is Question Mandatory : No Calculator : None Response Time : N.A Think Time : N.A Minimum Instruction Time : 0

Correct Marks : 5 Wrong Marks : 1

Question Key Details :

Key	Value
Comprehension	MCQ

44+XXY કેયોટાઇપ ધરાવતી વ્યક્તિ આ રોગથી પીડીત છે.

1. ડાઉન્સ સિન્ડ્રોમ
2. ક્લાઇબેન્કેલ્ટર્સ સિન્ડ્રોમ
3. ટર્નર્સ સિન્ડ્રોમ
4. એડવર્ડ્સ સિન્ડ્રોમ

Options :

485584145573. 1
485584145574. 2
485584145575. 3
485584145576. 4

Question Number : 10 Question Id : 48558436395 Question Type : MCQ Option Shuffling : No Is Question Mandatory : No Calculator : None Response Time : N.A Think Time : N.A Minimum Instruction Time : 0

Correct Marks : 5 Wrong Marks : 1

Question Key Details :

Key	Value
Comprehension	MCQ

Select the mendelian disorders from the following:

- A. Thalassemia
- B. Turner's Syndrome
- C. Cystic Fibrosis
- D. Sickle cell anaemia

Choose the *correct answer* from the options given below:

1. B and D only
2. A, C and D only
3. B, C and D only
4. A and D only

Options :

485584145577. 1
485584145578. 2
485584145579. 3
485584145580. 4

Question Number : 10 Question Id : 48558436395 Question Type : MCQ Option Shuffling : No Is Question Mandatory : No Calculator : None Response Time : N.A Think Time : N.A Minimum Instruction Time : 0

Correct Marks : 5 Wrong Marks : 1

Question Key Details :

Key	Value
Comprehension	MCQ

નીચેના પૈકી મેન્ડેલીયન અનિયમિતતાઓ પસંદ કરો.

- A. થેલેસેમિયા
- B. ટર્નર સિન્ડ્રોમ
- C. સિસ્ટીક ફાઇબ્રોસિસ
- D. સીકલ-સેલ-એનીમીયા

નીચે આપેલા વિકલ્પોમાંથી સાચો જવાબ પસંદ કરો.

- 1. માત્ર B, D
- 2. માત્ર A, C, D
- 3. માત્ર B, C, D
- 4. માત્ર A, D

Options :

- 485584145577. 1
- 485584145578. 2
- 485584145579. 3
- 485584145580. 4

Question Number : 11 Question Id : 48558436396 Question Type : MCQ Option Shuffling : No Is Question Mandatory : No Calculator : None Response Time : N.A Think Time : N.A Minimum Instruction Time : 0

Correct Marks : 5 Wrong Marks : 1

Question Key Details :

Key	Value
Comprehension	MCQ

Match List I with List II

LIST I		LIST II	
A.	Phenotype reflects the contribution of each allele	I.	Pleiotropy
B.	Multiple phenotypic expressions by a single gene	II.	Linkage
C.	Generation of non-parental gene combinations	III.	Polygenic inheritance
D.	Parental gene combinations higher than non-parental type in F ₂ progeny	IV.	Recombination

Choose the correct answer from the options given below:

- 1. A-III, B-I, C-IV, D-II
- 2. A-I, B-IV, C-II, D-III
- 3. A-III, B-IV, C-I, D-II
- 4. A-I, B-III, C-II, D-IV

Options :

485584145581. 1
485584145582. 2
485584145583. 3
485584145584. 4

Question Number : 11 Question Id : 48558436396 Question Type : MCQ Option Shuffling : No Is Question Mandatory :
No Calculator : None Response Time : N.A Think Time : N.A Minimum Instruction Time : 0

Correct Marks : 5 Wrong Marks : 1

Question Key Details :

Key	Value
Comprehension	MCQ

સૂચિ I ને સૂચિ II સાથે જોડો.

સૂચિ I		સૂચિ II	
A.	દરેક એલેલના ફાળાથી સ્વરૂપપ્રકાર પ્રદર્શાત થાય	I.	ટર્બીઓટોપી
B.	એકલ જનીન એક કરતાં વધારે સ્વરૂપ લક્ષી અભિવ્યક્તિ દર્શાવે	II.	સહવસૂતા
C.	બિનપિતૃ જનીનો સંયોજનથી પેઢી	III.	બહુજનીનિક વારસી
D.	F_2 પેઢીમાં પિતૃ જનીન સંયોજનો એ બિન પિતૃ સંયોજનનો કરતા વધુ હોય છે	IV.	પુનઃ સંયોજન

નીચે આપેલા વિકલ્પોમાંથી સાચો જવાબ પસંદ કરો.

1. A-III, B-I, C-IV, D-II
2. A-I, B-IV, C-II, D-III
3. A-III, B-IV, C-I, D-II
4. A-I, B-III, C-II, D-IV

Options :

485584145581. 1
485584145582. 2
485584145583. 3
485584145584. 4

Question Number : 12 Question Id : 48558436397 Question Type : MCQ Option Shuffling : No Is Question Mandatory :
No Calculator : None Response Time : N.A Think Time : N.A Minimum Instruction Time : 0

Correct Marks : 5 Wrong Marks : 1

Question Key Details :

Key	Value
Comprehension	MCQ

Point mutations means:

1. Change in one base pair
2. Change in one allele
3. Change of base pair at a location without any significance
4. Addition or deletion of codons in multiple of three at a point

Options :

485584145585. 1
485584145586. 2
485584145587. 3
485584145588. 4

Question Number : 12 Question Id : 48558436397 Question Type : MCQ Option Shuffling : No Is Question Mandatory : No Calculator : None Response Time : N.A Think Time : N.A Minimum Instruction Time : 0

Correct Marks : 5 Wrong Marks : 1

Question Key Details :

Key	Value
Comprehension	MCQ

પોઈન્ટ મ્યુટેશન એટલે

1. એક બેઈઝ જોડીમાં થતો ફેરફાર
2. એક એલેલમાં થતો ફેરફાર
3. કોઈ મહત્વ વગર, એક સ્થાને બેઈઝ જોડીમાં થતો ફેરફાર
4. એક જ સ્થાને ત્રણના ગુણાંક માં સંકેતોનો ઊભેરો અથવા બાદબાકી

Options :

485584145585. 1
485584145586. 2
485584145587. 3
485584145588. 4

Question Number : 13 Question Id : 48558436398 Question Type : MCQ Option Shuffling : No Is Question Mandatory : No Calculator : None Response Time : N.A Think Time : N.A Minimum Instruction Time : 0

Correct Marks : 5 Wrong Marks : 1

Question Key Details :

Key	Value
Comprehension	MCQ

Which of the following is a stop codon?

1. UAC

2. UAG

3. UAU

4. AUG

Options :

485584145589. 1

485584145590. 2

485584145591. 3

485584145592. 4

Question Number : 13 Question Id : 48558436398 Question Type : MCQ Option Shuffling : No Is Question Mandatory : No Calculator : None Response Time : N.A Think Time : N.A Minimum Instruction Time : 0

Correct Marks : 5 Wrong Marks : 1

Question Key Details :

Key	Value
Comprehension	MCQ

નીચેના પેડી કયો સમાપ્તિ સંકેત છે ?

1. UAC

2. UAG

3. UAU

4. AUG

Options :

485584145589. 1

485584145590. 2

485584145591. 3

485584145592. 4

Question Number : 14 Question Id : 48558436399 Question Type : MCQ Option Shuffling : No Is Question Mandatory : No Calculator : None Response Time : N.A Think Time : N.A Minimum Instruction Time : 0

Correct Marks : 5 Wrong Marks : 1

Question Key Details :

Key	Value
Comprehension	MCQ

Match List I with List II

LIST I (Codes)		LIST II (Codes for)	
A.	UUU	I.	Phenylalanine
B.	AUG	II.	Initiator codon
C.	UAA	III.	Terminator codon
D.	GUU	IV.	Valine

Choose the correct answer from the options given below:

1. A-I, B-II, C-III, D-IV
2. A-II, B-I, C-III, D-IV
3. A-I, B-II, C-IV, D-III
4. A-III, B-IV, C-I, D-II

Options :

485584145593. 1
485584145594. 2
485584145595. 3
485584145596. 4

Question Number : 14 Question Id : 48558436399 Question Type : MCQ Option Shuffling : No Is Question Mandatory : No Calculator : None Response Time : N.A Think Time : N.A Minimum Instruction Time : 0

Correct Marks : 5 Wrong Marks : 1

Question Key Details :

Key	Value
Comprehension	MCQ

સૂચિ I ને સૂચિ II સાથે જોડો.

સૂચિ I (સંકેતો)		સૂચિ II (માટેના સંકેતો)	
A.	UUU	I.	ફિનાઈલ એલેનાઈન
B.	AUG	II.	પ્રારંભિક સંકેત
C.	UAA	III.	સમાપ્તિ સંકેત
D.	GUU	IV.	વેલાઈન

નીચે આપેલા વિકલ્પોમાંથી સાચો જવાબ પસંદ કરો.

1. A-I, B-II, C-III, D-IV
2. A-II, B-I, C-III, D-IV
3. A-I, B-II, C-IV, D-III
4. A-III, B-IV, C-I, D-II

Options :

485584145593. 1
485584145594. 2

485584145595. 3

485584145596. 4

Question Number : 15 Question Id : 48558436400 Question Type : MCQ Option Shuffling : No Is Question Mandatory : No Calculator : None Response Time : N.A Think Time : N.A Minimum Instruction Time : 0

Correct Marks : 5 Wrong Marks : 1

Question Key Details :

Key	Value
Comprehension	MCQ

Multiple additions of new genes or alleles to the new population and their loss from the old population of a particular place due to migration is known as:

1. Gene flow
2. Genetic drift
3. Mutation
4. Natural selection

Options :

485584145597. 1

485584145598. 2

485584145599. 3

485584145600. 4

Question Number : 15 Question Id : 48558436400 Question Type : MCQ Option Shuffling : No Is Question Mandatory : No Calculator : None Response Time : N.A Think Time : N.A Minimum Instruction Time : 0

Correct Marks : 5 Wrong Marks : 1

Question Key Details :

Key	Value
Comprehension	MCQ

કોઈ એક સ્થળે સ્થળાંતરણને કારણે નવા જનીનો અથવા એલેલની બહુવૈકલ્પિક આવૃત્તિઓ નવી વસ્તુમાં ઊમેરાય છે અને તેનો જુની વસ્તીમાંથી લોપ થાય છે. તેને કહે છે:

1. જનીન પ્રવાહ (Gene flow)
2. જનીનિક વિચલન (Genetic drift)
3. વિકૃતિ
4. પાકૃતિક પસંદગી

Options :

485584145597. 1

485584145598. 2

485584145599. 3

485584145600. 4

Question Number : 16 Question Id : 48558436401 Question Type : MCQ Option Shuffling : No Is Question Mandatory : No Calculator : None Response Time : N.A Think Time : N.A Minimum Instruction Time : 0

Correct Marks : 5 Wrong Marks : 1

Question Key Details :

Key	Value
Comprehension	MCQ

Australian marsupials show the phenomena of:

1. Convergent evolution
2. Adaptive radiation
3. Isolation
4. Saltation

Options :

485584145601. 1
485584145602. 2
485584145603. 3
485584145604. 4

Question Number : 16 Question Id : 48558436401 Question Type : MCQ Option Shuffling : No Is Question Mandatory : No Calculator : None Response Time : N.A Think Time : N.A Minimum Instruction Time : 0

Correct Marks : 5 Wrong Marks : 1

Question Key Details :

Key	Value
Comprehension	MCQ

ઓસ્ટ્રેલિયન માર્સુપિયલ આ ઘટના દર્શાવે છે.

1. કેન્દ્રાભિસારી ઉદ્ભવિકાસ
2. અનુકુલિત પ્રસરણ
3. અલગીકરણ
4. સાલ્ટેશન

Options :

485584145601. 1
485584145602. 2
485584145603. 3
485584145604. 4

Question Number : 17 Question Id : 48558436402 Question Type : MCQ Option Shuffling : No Is Question Mandatory : No Calculator : None Response Time : N.A Think Time : N.A Minimum Instruction Time : 0

Correct Marks : 5 Wrong Marks : 1

Question Key Details :

Key	Value
Comprehension	MCQ

Identify the examples of evolution caused due to anthropogenic actions:

- A. *Bacillus thuringiensis* and Lepidopterans
- B. Industrial melanism in moths
- C. Resistant microbes against antibiotics
- D. Pesticides and insects

Choose the correct answer from the options given below:

- 1. A, B and C only
- 2. A, B and D only
- 3. B, C and D only
- 4. A, C and D Only

Options :

- 485584145605. 1
- 485584145606. 2
- 485584145607. 3
- 485584145608. 4

Question Number : 17 Question Id : 48558436402 Question Type : MCQ Option Shuffling : No Is Question Mandatory : No Calculator : None Response Time : N.A Think Time : N.A Minimum Instruction Time : 0

Correct Marks : 5 Wrong Marks : 1

Question Key Details :

Key	Value
Comprehension	MCQ

માનવપ્રેરિત ક્રિયાઓને કારણે થયેલા ઉદવિકાસના ઉદાહરણોને ઓળખો.

- A. બેસીલસ થુરિંગ્સ એન્સીસ અને લેપીડોપ્ટેરન્સ
- B. કુદામાં ઔદ્યોગિક મેલેનિઝમ
- C. એન્ટિબાયોટિક સામે સૂક્ષ્મજીવોની પ્રતિકારકતા
- D. જંતુનાશકો અને કીટકો

નીચે આપેલા વિકલ્પોમાંથી સાચો જવાબ પસંદ કરો.

- 1. A, B, C
- 2. A, B, D
- 3. B, C, D
- 4. A, C, D

Options :

- 485584145605. 1
- 485584145606. 2
- 485584145607. 3
- 485584145608. 4

Question Number : 18 Question Id : 48558436403 Question Type : MCQ Option Shuffling : No Is Question Mandatory : No Calculator : None Response Time : N.A Think Time : N.A Minimum Instruction Time : 0

Correct Marks : 5 Wrong Marks : 1

Question Key Details :

Key	Value
Comprehension	MCQ

The presence of which disease is confirmed by Widal Test?

1. Malaria
2. Pneumonia
3. Typhoid
4. AIDS

Options :

485584145609. 1
485584145610. 2
485584145611. 3
485584145612. 4

Question Number : 18 Question Id : 48558436403 Question Type : MCQ Option Shuffling : No Is Question Mandatory : No Calculator : None Response Time : N.A Think Time : N.A Minimum Instruction Time : 0

Correct Marks : 5 Wrong Marks : 1

Question Key Details :

Key	Value
Comprehension	MCQ

विडाव टेस्ट द्वारा क्या रोगनी छाजरी नक्की करी शकय ?

1. मेबरिया
2. न्युमोनिया
3. टाइफोईड
4. AIDS

Options :

485584145609. 1
485584145610. 2
485584145611. 3
485584145612. 4

Question Number : 19 Question Id : 48558436404 Question Type : MCQ Option Shuffling : No Is Question Mandatory : No Calculator : None Response Time : N.A Think Time : N.A Minimum Instruction Time : 0

Correct Marks : 5 Wrong Marks : 1

Question Key Details :

Key	Value
Comprehension	MCQ

Arrange the stages of HIV infection in humans sequentially.

- A. Introduction of viral DNA in the cell
- B. Production of multiple viruses
- C. Infection of human cell by virus
- D. Incorporation of viral DNA into host genome

Choose the correct answer from the options given below:

- 1. A, B, D, C
- 2. C, A, D, B
- 3. D, A, B, C
- 4. B, A, D, C

Options :

- 485584145613. 1
- 485584145614. 2
- 485584145615. 3
- 485584145616. 4

Question Number : 19 Question Id : 48558436404 Question Type : MCQ Option Shuffling : No Is Question Mandatory : No Calculator : None Response Time : N.A Think Time : N.A Minimum Instruction Time : 0

Correct Marks : 5 Wrong Marks : 1

Question Key Details :

Key	Value
Comprehension	MCQ

માનવીમાં HIVના ચેપની અવસ્થાઓને ક્રમમાં ગોઠવો.

- A. કોષમાં વાઇરસના DNA ની પ્રવેશ
- B. ઘણા વાઇરસોનું ઉત્પાદન
- C. વાઇરસ દ્વારા મનુષ્યના કોષને ચેપ લાગવો.
- D. યજમાન જીનોમમાં વાઇરસના DNA દાખલ થાય.

નીચે આપેલા વિકલ્પોમાંથી સાચો જવાબ પસંદ કરો.

- 1. A, B, D, C
- 2. C, A, D, B
- 3. D, A, B, C
- 4. B, A, D, C

Options :

- 485584145613. 1
- 485584145614. 2
- 485584145615. 3
- 485584145616. 4

Question Number : 20 Question Id : 48558436405 Question Type : MCQ Option Shuffling : No Is Question Mandatory : No Calculator : None Response Time : N.A Think Time : N.A Minimum Instruction Time : 0

Correct Marks : 5 Wrong Marks : 1

Question Key Details :

Key	Value
Comprehension	MCQ

Match List I with List II

LIST I Causal organism		LIST II Disease	
A.	<i>Wuchereria bancrofti</i>	I.	Ringworm
B.	<i>Microsporium</i>	II.	Elephantiasis
C.	<i>Entamoeba histolytica</i>	III.	Malaria
D.	<i>Plasmodium vivax</i>	IV.	Amoebiasis

Choose the correct answer from the options given below:

1. A-II, B-I, C-IV, D-III
2. A-I, B-II, C-III, D-IV
3. A-IV, B-III, C-II, D-I
4. A-I, B-II, C-IV, D-III

Options :

- 485584145617. 1
- 485584145618. 2
- 485584145619. 3
- 485584145620. 4

Question Number : 20 Question Id : 48558436405 Question Type : MCQ Option Shuffling : No Is Question Mandatory : No Calculator : None Response Time : N.A Think Time : N.A Minimum Instruction Time : 0

Correct Marks : 5 Wrong Marks : 1

Question Key Details :

Key	Value
Comprehension	MCQ

સૂચિ I ને સૂચિ II સાથે જોડો.

સૂચિ I (રોગકારક સજીવ)		સૂચિ II (રોગ)	
A.	Wuchereria bancrofti	I.	દાદર
B.	Microsporium	II.	કાચીપગી
C.	Entamoeba histolytica	III.	મેલેરિયા
D.	Plasmodium vivax	IV.	અમીબીઆસિસ

નીચે આપેલા વિકલ્પોમાંથી સાચો જવાબ પસંદ કરો.

1. A-II, B-I, C-IV, D-III
2. A-I, B-II, C-III, D-IV
3. A-IV, B-III, C-II, D-I
4. A-I, B-II, C-IV, D-III

Options :

485584145617. 1
485584145618. 2
485584145619. 3
485584145620. 4

Question Number : 21 Question Id : 48558436406 Question Type : MCQ Option Shuffling : No Is Question Mandatory : No Calculator : None Response Time : N.A Think Time : N.A Minimum Instruction Time : 0

Correct Marks : 5 Wrong Marks : 1

Question Key Details :

Key	Value
Comprehension	MCQ

Homozygosity is achieved through :

1. Recombinant DNA technology
2. Vaccination
3. Inbreeding
4. Hybridoma technology

Options :

485584145621. 1
485584145622. 2
485584145623. 3
485584145624. 4

Question Number : 21 Question Id : 48558436406 Question Type : MCQ Option Shuffling : No Is Question Mandatory : No Calculator : None Response Time : N.A Think Time : N.A Minimum Instruction Time : 0

Correct Marks : 5 Wrong Marks : 1

Question Key Details :

Key	Value
-----	-------

વિષમયુગ્મતા આના દ્વારા પ્રાપ્ત થયા છે.

1. પુનઃ સંયોજિત DNA તકનિક
2. રસીકરણ
3. અંતઃ સંવધન
4. હાઇબ્રિડીમાં તકનિક

Options :

485584145621. 1
485584145622. 2
485584145623. 3
485584145624. 4

Question Number : 22 Question Id : 48558436407 Question Type : MCQ Option Shuffling : No Is Question Mandatory : No Calculator : None Response Time : N.A Think Time : N.A Minimum Instruction Time : 0

Correct Marks : 5 Wrong Marks : 1

Question Key Details :

Key	Value
Comprehension	MCQ

Arrange the steps involved in breeding a crop for a new genetic variety in sequence.

- A. Selection and testing of superior recombinants
- B. Evaluation and selection of parents
- C. Collection of variability
- D. Testing release and commercialisation of new cultivars
- E. Cross hybridisation among selected parents

Choose the correct answer from the options given below:

1. A → C → B → E → D
2. B → D → A → C → E
3. C → B → E → A → D
4. D → B → A → E → C

Options :

485584145625. 1
485584145626. 2
485584145627. 3
485584145628. 4

Question Number : 22 Question Id : 48558436407 Question Type : MCQ Option Shuffling : No Is Question Mandatory : No Calculator : None Response Time : N.A Think Time : N.A Minimum Instruction Time : 0

Correct Marks : 5 Wrong Marks : 1

Question Key Details :

Key	Value
-----	-------

પાકની નવી જનીનિક જાતના સંકરણ સાથે સંકળાયેલા પગલાઓને અનુક્રમમાં ગોઠવો.

- ઉચ્ચ પુનઃ સંયોજિત જાતોની પસંદગી અને પરીક્ષણ
- મૂલ્યાંકન અને પિતૃઓની પસંદગી
- ભિન્નતાનું એકત્રીકરણ
- નવી જાતોનું પરીક્ષણ મુક્તિ અને વ્યાપારીકરણ
- પસંદ કરેલ પિતૃઓ વચ્ચે પર સંકરણ

નીચે આપેલા વિકલ્પોમાંથી સાચો જવાબ પસંદ કરો.

- A → C → B → E → D
- B → D → A → C → E
- C → B → E → A → D
- D → B → A → E → C

Options :

485584145625. 1
485584145626. 2
485584145627. 3
485584145628. 4

Question Number : 23 Question Id : 48558436408 Question Type : MCQ Option Shuffling : No Is Question Mandatory : No Calculator : None Response Time : N.A Think Time : N.A Minimum Instruction Time : 0

Correct Marks : 5 Wrong Marks : 1

Question Key Details :

Key	Value
Comprehension	MCQ

Match List I with List II

LIST I		LIST II	
A.	<i>Apis indica</i>	I.	Dairying
B.	<i>Catla</i>	II.	Poultry
C.	Leghorn	III.	Fisheries
D.	Jersey	IV.	Bee-keeping

Choose the correct answer from the options given below:

- A-I, B-II, C-III, D-IV
- A-II, B-I, C-III, D-IV
- A-IV, B-III, C-II, D-I
- A-III, B-IV, C-I, D-II

Options :

485584145629. 1
485584145630. 2

485584145631. 3

485584145632. 4

Question Number : 23 Question Id : 48558436408 Question Type : MCQ Option Shuffling : No Is Question Mandatory : No Calculator : None Response Time : N.A Think Time : N.A Minimum Instruction Time : 0

Correct Marks : 5 Wrong Marks : 1

Question Key Details :

Key	Value
Comprehension	MCQ

સૂચિ I ને સૂચિ II સાથે જોડો.

સૂચિ I		સૂચિ II	
A.	થેપોસ ઇન્ડીકા	I.	કરો વ્યવસ્થાપન
B.	કટલા	II.	મરઘાપાલન
C.	લેગ્ડોર્ન	III.	મત્સ્યપાલન
D.	જસી	IV.	મધમાખી ઉછેર

નીચે આપેલા વિકલ્પોમાંથી સાચો જવાબ પસંદ કરો.

1. A-I, B-II, C-III, D-IV

2. A-II, B-I, C-III, D-IV

3. A-IV, B-III, C-II, D-I

4. A-III, B-IV, C-I, D-II

Options :

485584145629. 1

485584145630. 2

485584145631. 3

485584145632. 4

Question Number : 24 Question Id : 48558436409 Question Type : MCQ Option Shuffling : No Is Question Mandatory : No Calculator : None Response Time : N.A Think Time : N.A Minimum Instruction Time : 0

Correct Marks : 5 Wrong Marks : 1

Question Key Details :

Key	Value
Comprehension	MCQ

Which of the following microbe serves as an important biofertiliser in paddy field?

1. Cyanobacteria

2. Rhizobium

3. Myconhiza

4. Bacillus thuringiensis

Options :

485584145633. 1

485584145634. 2

485584145635. 3

485584145636. 4

Question Number : 24 Question Id : 48558436409 Question Type : MCQ Option Shuffling : No Is Question Mandatory : No Calculator : None Response Time : N.A Think Time : N.A Minimum Instruction Time : 0

Correct Marks : 5 Wrong Marks : 1

Question Key Details :

Key	Value
Comprehension	MCQ

ડાંગરના ખેતરોમાં નીચેના પૈકી કયો સૂક્ષ્મસજીવ અગત્યના જૈવિક ખાતર તરીકે ઉપયોગી છે.

1. સાયનો બેક્ટેરિયા

2. રાઈઝોબિયમ

3. માઈકોરાઈઝા

4. બેસીલસ થુરીન્જિએન્સીસ

Options :

485584145633. 1

485584145634. 2

485584145635. 3

485584145636. 4

Question Number : 25 Question Id : 48558436410 Question Type : MCQ Option Shuffling : No Is Question Mandatory : No Calculator : None Response Time : N.A Think Time : N.A Minimum Instruction Time : 0

Correct Marks : 5 Wrong Marks : 1

Question Key Details :

Key	Value
Comprehension	MCQ

Identify the correct statements with respect to microbes.

A. "Toddy" the traditional drink obtained by fermenting sap of Palm tree.

B. Swiss cheese's large holes are due to activity of *Saccharomyces cerevisiae*.

C. "Penicillin" was discovered by Alexander Fleming.

D. The Cyclosporin A, is produced by *Trichoderma polysporum*.

Choose the the correct answer from the options given below:

1. A, B and D only

2. A and B only

3. A, C, and D only

4. C and D only

Options :

485584145637. 1

485584145638. 2

485584145639. 3

485584145640. 4

Question Number : 25 Question Id : 48558436410 Question Type : MCQ Option Shuffling : No Is Question Mandatory : No Calculator : None Response Time : N.A Think Time : N.A Minimum Instruction Time : 0

Correct Marks : 5 Wrong Marks : 1

Question Key Details :

Key	Value
Comprehension	MCQ

સૂક્ષ્મજીવોના સંદર્ભે સાચા વિધાનો આજાઓ.

- A. પામ વૃક્ષના રસમાં આથવરણ દ્વારા, પરંપરાગત પીણું-ટોડી મેળવવામાં આવે છે.
- B. સેકેરોમાયસીઝ સેરેવીસીની ક્રિયાને કારણે સ્વીસ યીઝમાં મોટા કાણાઓ જોવા મળે છે.
- C. પેનીસીલીન ની શોધ એલેક્ઝાન્ડર ફ્લેમીંગ દ્વારા કરવામાં આવી હતી
- D. સાયકલોસ્પોરિન-A નું ઉત્પાદન ટ્રાયકોડમાં
- E. પોલીસ્પોરમ દ્વારા થાય છે.

નીચે આપેલા વિકલ્પોમાંથી સાચો જવાબ પસંદ કરો.

- 1. માત્ર A, B અને D
- 2. માત્ર A, B
- 3. માત્ર A, C અને D
- 4. માત્ર C અને D

Options :

485584145637. 1

485584145638. 2

485584145639. 3

485584145640. 4

Question Number : 26 Question Id : 48558436411 Question Type : MCQ Option Shuffling : No Is Question Mandatory : No Calculator : None Response Time : N.A Think Time : N.A Minimum Instruction Time : 0

Correct Marks : 5 Wrong Marks : 1

Question Key Details :

Key	Value
Comprehension	MCQ

Match List I with List II

LIST I Organism		LIST II Product	
A.	<i>Streptococcus</i>	I.	Citric acid
B.	<i>Aspergillus niger</i>	II.	Streptokinase
C.	<i>Monascus purpureus</i>	III.	Ethanol
D.	<i>Saccharomyces cerevisiae</i>	IV.	Statin

Choose the correct answer from the options given below:

1. A-II, B-I, C-IV, D-III
2. A-I, B-II, C-III, D-IV
3. A-II, B-I, C-III, D-IV
4. A-III, B-IV, C-I, D-II

Options :

485584145641. 1
485584145642. 2
485584145643. 3
485584145644. 4

Question Number : 26 Question Id : 48558436411 Question Type : MCQ Option Shuffling : No Is Question Mandatory : No Calculator : None Response Time : N.A Think Time : N.A Minimum Instruction Time : 0

Correct Marks : 5 Wrong Marks : 1

Question Key Details :

Key	Value
Comprehension	MCQ

સૂચિ I ને સૂચિ II સાથે જોડો.

સૂચિ I (સજીવ)		સૂચિ II (નીપજ)	
A.	સ્ટ્રેપ્ટોકોક્સ	I.	સાઇટ્રિક એસિડ
B.	એસ્પરજીલસ નીગર	II.	સ્ટ્રેપ્ટોકોકાઇનેઝ
C.	મોનાસ્કસ પુરપુરિયસ	III.	ઇથેનોલ
D.	સેક્રેટોમાયસિસ સેરવિસી	IV.	સ્ટેટીન

નીચે આપેલા વિકલ્પોમાંથી સાચો જવાબ પસંદ કરો.

1. A-II, B-I, C-IV, D-III
2. A-I, B-II, C-III, D-IV
3. A-II, B-I, C-III, D-IV
4. A-III, B-IV, C-I, D-II

Options :

485584145641. 1
485584145642. 2

485584145643. 3

485584145644. 4

Question Number : 27 Question Id : 48558436412 Question Type : MCQ Option Shuffling : No Is Question Mandatory : No Calculator : None Response Time : N.A Think Time : N.A Minimum Instruction Time : 0

Correct Marks : 5 Wrong Marks : 1

Question Key Details :

Key	Value
Comprehension	MCQ

Which of the following is not a part of downstream processing?

1. Separation
2. Purification
3. Quality control
4. Biosynthesis

Options :

485584145645. 1

485584145646. 2

485584145647. 3

485584145648. 4

Question Number : 27 Question Id : 48558436412 Question Type : MCQ Option Shuffling : No Is Question Mandatory : No Calculator : None Response Time : N.A Think Time : N.A Minimum Instruction Time : 0

Correct Marks : 5 Wrong Marks : 1

Question Key Details :

Key	Value
Comprehension	MCQ

નીચેના પૈકી કયો અનુપ્રવાહિત પ્રક્રિયાનો ભાગ નથી?

1. અલગીકરણ
2. શુદ્ધિકરણ
3. ગુણવત્તા નિયંત્રણ
4. જૈવસંશ્લેષણ

Options :

485584145645. 1

485584145646. 2

485584145647. 3

485584145648. 4

Question Number : 28 Question Id : 48558436413 Question Type : MCQ Option Shuffling : No Is Question Mandatory : No Calculator : None Response Time : N.A Think Time : N.A Minimum Instruction Time : 0

Correct Marks : 5 Wrong Marks : 1

Question Key Details :

Key	Value
Comprehension	MCQ

Which was the first restriction endonuclease discovered?

1. *EcoRI*
2. *BamHI*
3. *Hind II*
4. *Pst I*

Options :

485584145649. 1
485584145650. 2
485584145651. 3
485584145652. 4

Question Number : 28 Question Id : 48558436413 Question Type : MCQ Option Shuffling : No Is Question Mandatory : No Calculator : None Response Time : N.A Think Time : N.A Minimum Instruction Time : 0

Correct Marks : 5 Wrong Marks : 1

Question Key Details :

Key	Value
Comprehension	MCQ

સૌપ્રથમ શોધાયેલ રેસ્ટ્રિક્શન એન્ડોન્યુક્લિયેસ કયો હતો ?

1. *EcoRI*
2. *BamHI*
3. *Hind II*
4. *Pst I*

Options :

485584145649. 1
485584145650. 2
485584145651. 3
485584145652. 4

Question Number : 29 Question Id : 48558436414 Question Type : MCQ Option Shuffling : No Is Question Mandatory : No Calculator : None Response Time : N.A Think Time : N.A Minimum Instruction Time : 0

Correct Marks : 5 Wrong Marks : 1

Question Key Details :

Key	Value
Comprehension	MCQ

The correct sequence of steps to obtain gene of interest from pool of DNA is:

- Cutting of DNA using restriction endonuclease.
- Viewing the ethidium bromide stained gel under UV light.
- Loading of DNA in wells.
- Cutting and extraction of DNA piece from gel.
- Separation of DNA fragments according to their molecular size.

Choose the correct answer from the options given below:

- A, C, E, B, D
- A, D, C, B, E
- E, D, B, C, A
- D, E, C, A, B

Options :

485584145653. 1
485584145654. 2
485584145655. 3
485584145656. 4

Question Number : 29 Question Id : 48558436414 Question Type : MCQ Option Shuffling : No Is Question Mandatory : No Calculator : None Response Time : N.A Think Time : N.A Minimum Instruction Time : 0

Correct Marks : 5 Wrong Marks : 1

Question Key Details :

Key	Value
Comprehension	MCQ

DNAના જથ્થામાંથી ઇચ્છીક જનીન મેળવવા માટેના ચરણોનો સાચો ક્રમ આ છે.

- રિસ્ટ્રીકશન એન્ડોન્યુક્લિઝેઝની મદદથી DNA ની કાપણી
- ઇથિડિયમ બ્રોમાઇડ વડે અભિરંજિત કરેલ જેવને UV કિરણો નીચે જોવું.
- ખાડાઓમાં DNA ને ભરવું
- જલ માંથી DNA ટુકડાઓની કાપણી અને નિષ્કર્ષણ
- DNA ટુકડાઓને તેના કદ અનુસાર છૂટા પાડવા

નીચે આપેલા વિકલ્પોમાંથી સાચો જવાબ પસંદ કરો.

- A, C, E, B, D
- A, D, C, B, E
- E, D, B, C, A
- D, E, C, A, B

Options :

485584145653. 1
485584145654. 2
485584145655. 3

485584145656.4

Question Number : 30 Question Id : 48558436415 Question Type : MCQ Option Shuffling : No Is Question Mandatory : No Calculator : None Response Time : N.A Think Time : N.A Minimum Instruction Time : 0

Correct Marks : 5 Wrong Marks : 1

Question Key Details :

Key	Value
Comprehension	MCQ

Over 95% of all existing transgenic animals are:

1. Mice
2. Goat
3. Rabbit
4. Pig

Options :

485584145657. 1
485584145658. 2
485584145659. 3
485584145660. 4

Question Number : 30 Question Id : 48558436415 Question Type : MCQ Option Shuffling : No Is Question Mandatory : No Calculator : None Response Time : N.A Think Time : N.A Minimum Instruction Time : 0

Correct Marks : 5 Wrong Marks : 1

Question Key Details :

Key	Value
Comprehension	MCQ

પ્રવર્તમાન 95% થી વધુ પારજનિક પ્રાણીઓ આ છે.

1. ઊંદર
2. બકરી
3. સસણું
4. છૂંડ

Options :

485584145657. 1
485584145658. 2
485584145659. 3
485584145660. 4

Question Number : 31 Question Id : 48558436416 Question Type : MCQ Option Shuffling : No Is Question Mandatory : No Calculator : None Response Time : N.A Think Time : N.A Minimum Instruction Time : 0

Correct Marks : 5 Wrong Marks : 1

Question Key Details :

Key	Value
-----	-------

A novel strategy to prevent infestation of roots of tobacco plant with the nematode *Meloidogyne incognita* is :

1. DNA interference
2. DNA-RNA interference
3. RNA interference
4. RNA-Protein interference

Options :

485584145661. 1
485584145662. 2
485584145663. 3
485584145664. 4

Question Number : 31 Question Id : 48558436416 Question Type : MCQ Option Shuffling : No Is Question Mandatory : No Calculator : None Response Time : N.A Think Time : N.A Minimum Instruction Time : 0

Correct Marks : 5 Wrong Marks : 1

Question Key Details :

Key	Value
Comprehension	MCQ

સૂત્રક્રમિ મેલાઈડોગાઇમ ઇનકોગ્નીશિયા દ્વારા તમાકુના છોડને સંક્રમણ લાગતું અટકાવવા માટેની નવી પધ્ધતિ છે.

1. DNA અંતઃક્ષેપ
2. DNA-RNA અંતઃક્ષેપ
3. RNA અંતઃક્ષેપ
4. RNA-પ્રોટીન અંતઃક્ષેપ

Options :

485584145661. 1
485584145662. 2
485584145663. 3
485584145664. 4

Question Number : 32 Question Id : 48558436417 Question Type : MCQ Option Shuffling : No Is Question Mandatory : No Calculator : None Response Time : N.A Think Time : N.A Minimum Instruction Time : 0

Correct Marks : 5 Wrong Marks : 1

Question Key Details :

Key	Value
Comprehension	MCQ

Match List I with List II

LIST I		LIST II	
A.	<i>Bacillus thuringiensis</i>	I.	Synthetic Human Insulin
B.	<i>Agrobacterium</i>	II.	ADA gene therapy
C.	<i>E. Coli</i>	III.	Cry gene
D.	Retroviral Vector	IV.	Vector carrying nematode-specific genes

Choose the correct answer from the options given below:

1. A-III, B-IV, C-I, D-II
2. A-II, B-I, C-III, D-IV
3. A-I, B-III, C-IV, D-II
4. A-IV, B-II, C-I, D-III

Options :

485584145665. 1
485584145666. 2
485584145667. 3
485584145668. 4

Question Number : 32 Question Id : 48558436417 Question Type : MCQ Option Shuffling : No Is Question Mandatory : No Calculator : None Response Time : N.A Think Time : N.A Minimum Instruction Time : 0

Correct Marks : 5 Wrong Marks : 1

Question Key Details :

Key	Value
Comprehension	MCQ

સૂચિ I ને સૂચિ II સાથે જોડો.

સૂચિ I		સૂચિ II	
A.	બેસિલસ થુરિન્જીએન્સીસ	I.	સંશ્લેષિત માનવ ઇન્સ્યુલિન
B.	અગ્રોબેક્ટેરિયમ	II.	ADA જનીન થેરાપી
C.	ઈ-કોલાઈ	III.	Cry જનીન
D.	રીટ્રોવાઇરસ વાહક	IV.	વાહક વડે જતા સૂત્રક્રમિ વિશિષ્ટ જનીનો

નીચે આપેલા વિકલ્પોમાંથી સાચી જવાબ પસંદ કરો.

1. A-III, B-IV, C-I, D-II
2. A-II, B-I, C-III, D-IV
3. A-I, B-III, C-IV, D-II
4. A-IV, B-II, C-I, D-III

Options :

485584145665. 1
485584145666. 2
485584145667. 3
485584145668. 4

Question Number : 33 Question Id : 48558436418 Question Type : MCQ Option Shuffling : No Is Question Mandatory : No Calculator : None Response Time : N.A Think Time : N.A Minimum Instruction Time : 0

Correct Marks : 5 Wrong Marks : 1

Question Key Details :

Key	Value
Comprehension	MCQ

Identify the commensalism from the following associations:

1. Fungi and roots of higher plants.
2. Cuckoo and crow during breeding season
3. Fig species and wasp
4. Sea anemone and clown fish

Options :

485584145669. 1
485584145670. 2
485584145671. 3
485584145672. 4

Question Number : 33 Question Id : 48558436418 Question Type : MCQ Option Shuffling : No Is Question Mandatory : No Calculator : None Response Time : N.A Think Time : N.A Minimum Instruction Time : 0

Correct Marks : 5 Wrong Marks : 1

Question Key Details :

Key	Value
Comprehension	MCQ

નીચેના આંતરક્રિયાઓમાંથી સહમોજીતાને ઓળખો.

1. ફૂગ અને ઉચ્ચકક્ષાની વનસ્પતિઓનું મૂળતંત્ર
2. પ્રજનન ઋતુ દરમિયાન કોચલ અને કાગડો
3. અંજીર જાતિ અને ભમરી
4. સમુદ્રકુલ અને કલોવન માછલી

Options :

485584145669. 1
485584145670. 2
485584145671. 3
485584145672. 4

Question Number : 34 Question Id : 48558436419 Question Type : MCQ Option Shuffling : No Is Question Mandatory : No Calculator : None Response Time : N.A Think Time : N.A Minimum Instruction Time : 0

Correct Marks : 5 Wrong Marks : 1

Question Key Details :

Key	Value
Comprehension	MCQ

Select the organisms that can tolerate wide range of temperatures:

1. Eurythermals
2. Stenothermals
3. Conformers
4. Osmoregulators

Options :

485584145673. 1
485584145674. 2
485584145675. 3
485584145676. 4

Question Number : 34 Question Id : 48558436419 Question Type : MCQ Option Shuffling : No Is Question Mandatory : No Calculator : None Response Time : N.A Think Time : N.A Minimum Instruction Time : 0

Correct Marks : 5 Wrong Marks : 1

Question Key Details :

Key	Value
Comprehension	MCQ

तापमाननी व्यापक क्षेत्रमर्यादा धरावता सञ्जुषो ने पसंद करो.

1. पृथुतापी
2. तनुतापी
3. अनुकूलित धनार
4. आसृति नियामको

Options :

485584145673. 1
485584145674. 2
485584145675. 3
485584145676. 4

Question Number : 35 Question Id : 48558436420 Question Type : MCQ Option Shuffling : No Is Question Mandatory : No Calculator : None Response Time : N.A Think Time : N.A Minimum Instruction Time : 0

Correct Marks : 5 Wrong Marks : 1

Question Key Details :

Key	Value
Comprehension	MCQ

The rate of decomposition is controlled by:

1. Chemical composition of detritus only
2. Climatic factors only
3. Both chemical composition of detritus and climatic factors
4. Atmospheric pressure

Options :

485584145677. 1
485584145678. 2
485584145679. 3
485584145680. 4

Question Number : 35 Question Id : 48558436420 Question Type : MCQ Option Shuffling : No Is Question Mandatory : No Calculator : None Response Time : N.A Think Time : N.A Minimum Instruction Time : 0

Correct Marks : 5 Wrong Marks : 1

Question Key Details :

Key	Value
Comprehension	MCQ

વિઘટનનો દર આના દ્વારા નિયંત્રીત થાય છે

1. ફક્ત મૃત અવશેષીય દ્રવ્યોનું રાસાયણિક બંધારણ
2. ફક્ત આબોહવાકીય પરિબલો
3. મૃત અવશેષીય દ્રવ્યો અને આબોહવાકીય પરિબલો બંને
4. વાતાવરણીય દબાણ

Options :

485584145677. 1
485584145678. 2
485584145679. 3
485584145680. 4

Question Number : 36 Question Id : 48558436421 Question Type : MCQ Option Shuffling : No Is Question Mandatory : No Calculator : None Response Time : N.A Think Time : N.A Minimum Instruction Time : 0

Correct Marks : 5 Wrong Marks : 1

Question Key Details :

Key	Value
Comprehension	MCQ

The Net Primary Productivity (NPP) is :

1. Gross Primary Productivity – Respiration losses
2. Gross Primary Productivity + Respiration losses
3. Gross Primary Productivity × Respiration losses
4. Respiration losses – Gross Primary Productivity

Options :

485584145681. 1
485584145682. 2
485584145683. 3
485584145684. 4

Question Number : 36 Question Id : 48558436421 Question Type : MCQ Option Shuffling : No Is Question Mandatory :
No Calculator : None Response Time : N.A Think Time : N.A Minimum Instruction Time : 0

Correct Marks : 5 Wrong Marks : 1

Question Key Details :

Key	Value
Comprehension	MCQ

વાસ્તવિક પ્રાથમિક ઉત્પાદકતા (NPP) છે.

1. કુલ પ્રથમિક ઉત્પાદકતા – શ્વસન
2. કુલ પ્રથમિક ઉત્પાદકતા + શ્વસન
3. કુલ પ્રથમિક ઉત્પાદકતા × શ્વસન
4. શ્વસન – કુલ પ્રાથમિક ઉત્પાદકતા

Options :

485584145681. 1
485584145682. 2
485584145683. 3
485584145684. 4

Question Number : 37 Question Id : 48558436422 Question Type : MCQ Option Shuffling : No Is Question Mandatory :
No Calculator : None Response Time : N.A Think Time : N.A Minimum Instruction Time : 0

Correct Marks : 5 Wrong Marks : 1

Question Key Details :

Key	Value
Comprehension	MCQ

Which of the following country has the highest biodiversity?

1. Brazil
2. Zimbabwe
3. Russia
4. India

Options :

485584145685. 1
485584145686. 2
485584145687. 3
485584145688. 4

Question Number : 37 Question Id : 48558436422 Question Type : MCQ Option Shuffling : No Is Question Mandatory : No Calculator : None Response Time : N.A Think Time : N.A Minimum Instruction Time : 0

Correct Marks : 5 Wrong Marks : 1

Question Key Details :

Key	Value
Comprehension	MCQ

નીચેના પૈકી કયો દેશ સૌથી વધુ જૈવવિવિધતા ધરાવે છે ?

1. બ્રાઝિલ
2. ઝિમ્બાબ્વે
3. રશીયા
4. ભારત

Options :

485584145685. 1
485584145686. 2
485584145687. 3
485584145688. 4

Question Number : 38 Question Id : 48558436423 Question Type : MCQ Option Shuffling : No Is Question Mandatory : No Calculator : None Response Time : N.A Think Time : N.A Minimum Instruction Time : 0

Correct Marks : 5 Wrong Marks : 1

Question Key Details :

Key	Value
Comprehension	MCQ

Which of the following species has become extinct due to over exploitation by humans?

1. *Clarias gariepinus*
2. Stellers's sea cow
3. *Lantana*
4. *Parthenium*

Options :

485584145689. 1
485584145690. 2
485584145691. 3
485584145692. 4

Question Number : 38 Question Id : 48558436423 Question Type : MCQ Option Shuffling : No Is Question Mandatory : No Calculator : None Response Time : N.A Think Time : N.A Minimum Instruction Time : 0

Correct Marks : 5 Wrong Marks : 1

Question Key Details :

Key	Value
Comprehension	MCQ

નીચેના પૈકી કઈ જાતિ, મનુષ્ય દ્વારા અતિશોષણ થવાથી લુપ્ત થઈ છે?

1. ક્લેરીઆસ ગેરીપીનસ
2. સ્ટીલર સી કાઉ
3. લાન્ટાના
4. પાર્થેનિયમ

Options :

485584145689. 1
485584145690. 2
485584145691. 3
485584145692. 4

Question Number : 39 Question Id : 48558436424 Question Type : MCQ Option Shuffling : No Is Question Mandatory : No Calculator : None Response Time : N.A Think Time : N.A Minimum Instruction Time : 0

Correct Marks : 5 Wrong Marks : 1

Question Key Details :

Key	Value
Comprehension	MCQ

Salts are drawn to the surface of the soil by:

1. Over cultivation
2. Deforestation
3. Water logging
4. Unrestricted grazing

Options :

485584145693. 1
485584145694. 2
485584145695. 3
485584145696. 4

Question Number : 39 Question Id : 48558436424 Question Type : MCQ Option Shuffling : No Is Question Mandatory : No Calculator : None Response Time : N.A Think Time : N.A Minimum Instruction Time : 0

Correct Marks : 5 Wrong Marks : 1

Question Key Details :

Key	Value
Comprehension	MCQ

જમીન સપાટી તરફ ક્ષારો આના દ્વારા ખેંચાય છે.

1. વધુ પડતું વાવેતર
2. વનવિનાશ
3. જમીનમાં પાણીનો ભરાવો
4. અનિયંત્રિત ચરાણ

Options :

485584145693. 1
485584145694. 2
485584145695. 3
485584145696. 4

Question Number : 40 Question Id : 48558436425 Question Type : MCQ Option Shuffling : No Is Question Mandatory : No Calculator : None Response Time : N.A Think Time : N.A Minimum Instruction Time : 0

Correct Marks : 5 Wrong Marks : 1

Question Key Details :

Key	Value
Comprehension	MCQ

World's most problematic aquatic weed is:

1. Free floating algae
2. *Vallisneria*
3. *Eichhornia crassipes*
4. *Chara*

Options :

485584145697. 1
485584145698. 2
485584145699. 3
485584145700. 4

Question Number : 40 Question Id : 48558436425 Question Type : MCQ Option Shuffling : No Is Question Mandatory : No Calculator : None Response Time : N.A Think Time : N.A Minimum Instruction Time : 0

Correct Marks : 5 Wrong Marks : 1

Question Key Details :

Key	Value
Comprehension	MCQ

વિશ્વનું સૌથી વધુ સમસ્યાજનક જલીય નીંદણ છે

1. મુક્ત રીતે તરતી ધીલ
2. વેલ્ડીસનેરીયા
3. આઇકોર્નિયા ક્રેસીપેસ
4. કારા

Options :

485584145697. 1
485584145698. 2
485584145699. 3
485584145700. 4

Sub-Section Number :

2

Sub-Section Id :

4855842691

Question Shuffling Allowed :

No

Is Section Default? :

null

Question Number : 41 Question Id : 48558436426 Question Type : MCQ Option Shuffling : No Is Question Mandatory : No Calculator : None Response Time : N.A Think Time : N.A Minimum Instruction Time : 0

Correct Marks : 5 Wrong Marks : 1

Question Key Details :

Key	Value
Comprehension	Comp1

Read the given paragraph and answer the question:

Humans have 23 pairs of chromosomes. 22 pairs are exactly same in both males and females; these are the autosomes. A pair of X-chromosome are present in the female, whereas the presence of an X and Y chromosome are determinant of the male characteristic.

A number of disorders in human beings have been found to be associated with the inheritance of changed or altered genes or chromosomes. Broadly, genetic disorder may be grouped into two categories-Mendelian disorders and Chromosomal disorders.

What is the probability of having a daughter to a couple expecting their first child?

1. Nil
2. 25%
3. 50%
4. 100%

Options :

485584145701. 1
485584145702. 2
485584145703. 3
485584145704. 4

Question Number : 41 Question Id : 48558436426 Question Type : MCQ Option Shuffling : No Is Question Mandatory : No Calculator : None Response Time : N.A Think Time : N.A Minimum Instruction Time : 0

Correct Marks : 5 Wrong Marks : 1

Question Key Details :

Key	Value
Comprehension	Comp1

નીચેના ફકરો વાંચો અને પ્રશ્નોના જવાબ આપો.

મનુષ્યમાં કુલ 23 જોડ રંગસૂત્રો આવેલા છે. તે પૈકી 22 જોડ નર અને માદામાં બિલકુલ સમાન છે. માદામાં X - રંગસૂત્રની એક જોડ હોય છે, અને નરમાં X - રંગસૂત્ર ઉપરાંત ઉપરાંત એક Y - રંગસૂત્ર હોય છે. જે નરના લક્ષણોને નિર્ધારિત કરે છે.

મનુષ્યમાં અસંખ્ય અનિયમિતતાઓ જોવા મળે છે. જે આનુવંશિકતા માં ફેરફારો અથવા જનીનિક ફેરફારો અથવા રંગસૂત્રીય ફેરફારો સાથે સંકળાયેલી છે વ્યાપક રીતે. જનીનિક અનિયમિતતાઓને બે જુથમાં મૂકી શકાય છે મેન્ડેલિયન અનિયમિતતા અને રંગસૂત્રીય અનુયમિતતા એક યુગલનું પ્રથમ બાળક પુત્રી હોવાની શક્યતા કેટલી હોય છે.

એક યુગલનું પ્રથમ બાળક, પુત્રી હોવાની શક્યતા કેટલી હોય છે ?

1. નથી
2. 25%
3. 50%
4. 100%

Options :

485584145701. 1
485584145702. 2
485584145703. 3
485584145704. 4

Question Number : 42 Question Id : 48558436427 Question Type : MCQ Option Shuffling : No Is Question Mandatory : No Calculator : None Response Time : N.A Think Time : N.A Minimum Instruction Time : 0

Correct Marks : 5 Wrong Marks : 1

Question Key Details :

Key	Value
Comprehension	Compl

Read the given paragraph and answer the question:

Humans have 23 pairs of chromosomes. 22 pairs are exactly same in both males and females; these are the autosomes. A pair of X-chromosome are present in the female, whereas the presence of an X and Y chromosome are determinant of the male characteristic.

A number of disorders in human beings have been found to be associated with the inheritance of changed or altered genes or chromosomes. Broadly, genetic disorder may be grouped into two categories-Mendelian disorders and Chromosomal disorders.

A disorder caused due to absence of one of the 'X' chromosome is -

1. Turner's Syndrome
2. Down's Syndrome
3. Klinefelter's Syndrome
4. Thalassemia

Options :

485584145705. 1
485584145706. 2
485584145707. 3
485584145708. 4

Question Number : 42 Question Id : 48558436427 Question Type : MCQ Option Shuffling : No Is Question Mandatory : No Calculator : None Response Time : N.A Think Time : N.A Minimum Instruction Time : 0

Correct Marks : 5 Wrong Marks : 1

Question Key Details :

Key	Value
Comprehension	Comp1

નીચેના ફકરો વાંચો અને પ્રશ્નોના જવાબ આપો.

મનુષ્યમાં કુલ 23 જોડ રંગસૂત્રો આવેલા છે. તે પૈકી 22 જોડ નર અને માદામાં બિલકુલ સમાન છે. માદામાં X - રંગસૂત્રની એક જોડ હોય છે, અને નરમાં X - રંગસૂત્ર ઉપરાંત એક Y - રંગસૂત્ર હોય છે. જે નરના લક્ષણોને નિર્ધારિત કરે છે.

મનુષ્યમાં અસંખ્ય અનિયમિતતાઓ જોવા મળે છે. જે આનુવંશિકતા માં ફેરફારો અથવા જનીનિક ફેરફારો અથવા રંગસૂત્રીય ફેરફારો સાથે સંકળાયેલી છે વ્યાપક રીતે. જનીનિક અનિયમિતતાઓને બે જુથમાં મૂકી શકાય છે મેન્ડેલિયન અનિયમિતતા અને રંગસૂત્રીય અનુયમિતતા એક યુગલનું પ્રથમ બાળક પુત્રી હોવાની શક્યતા કેટલી હોય છે.

એક 'X' રંગસૂત્રની ગેરહાજરીને કારણે ઉત્પન્ન થતી અનિયમિતતા છે

1. ટર્નર સિન્ડ્રોમ
2. ડાઉન્સ સિન્ડ્રોમ
3. ક્લાઇનફેલ્ટર્સ સિન્ડ્રોમ
4. થેલેસેમિયા

Options :

485584145705. 1
485584145706. 2
485584145707. 3
485584145708. 4

Question Number : 43 Question Id : 48558436428 Question Type : MCQ Option Shuffling : No Is Question Mandatory : No Calculator : None Response Time : N.A Think Time : N.A Minimum Instruction Time : 0

Correct Marks : 5 Wrong Marks : 1

Question Key Details :

Key	Value
Comprehension	Comp1

Read the given paragraph and answer the question:

Humans have 23 pairs of chromosomes. 22 pairs are exactly same in both males and females; these are the autosomes. A pair of X-chromosome are present in the female, whereas the presence of an X and Y chromosome are determinant of the male characteristic.

A number of disorders in human beings have been found to be associated with the inheritance of changed or altered genes or chromosomes. Broadly, genetic disorder may be grouped into two categories-Mendelian disorders and Chromosomal disorders.

A haemophilic man marries a normal woman. What is the possibility that their child have haemophilia?

1. 75%

2. 25%

3. 0%

4. 50%

Options :

485584145709. 1

485584145710. 2

485584145711. 3

485584145712. 4

Question Number : 43 Question Id : 48558436428 Question Type : MCQ Option Shuffling : No Is Question Mandatory : No Calculator : None Response Time : N.A Think Time : N.A Minimum Instruction Time : 0

Correct Marks : 5 Wrong Marks : 1

Question Key Details :

Key	Value
Comprehension	Comp1

નીચેના ફકરો વાંચો અને પ્રશ્નોના જવાબ આપો.

મનુષ્યમાં કુલ 23 જોડ રંગસૂત્રો આવેલા છે. તે પૈકી 22 જોડ નર અને માદામાં બિલકુલ સમાન છે. માદામાં X - રંગસૂત્રની એક જોડ હોય છે, અને નરમાં X - રંગસૂત્ર ઉપરાંત ઉપરાંત એક Y - રંગસૂત્ર હોય છે. જે નરના લક્ષણોને નિર્ધારિત કરે છે.

મનુષ્યમાં અસંખ્ય અનિયમિતતાઓ જોવા મળે છે. જે આનુવંશિકતા માં ફેરફારો અથવા જનીનિક ફેરફારો અથવા રંગસૂત્રીય ફેરફારો સાથે સંકળાયેલી છે વ્યાપક રીતે. જનીનિક અનિયમિતતાઓને બે જુથમાં મૂકી શકાય છે મેન્ડેલિયન અનિયમિતતા અને રંગસૂત્રીય અનુયમિતતા એક યુગલનું પ્રથમ બાળક પુત્રી હોવાની શક્યતા કેટલી હોય છે.

એક હિમોફિલિક પુરુષ એક સામાન્ય સ્ત્રી સથે લગ્ન કરે છે તો તેનું બાળક હિમોફિલિક હોવાની શક્યતા કેટલી?

1. 75%

2. 25%

3. 0%

4. 50%

Options :

485584145709. 1

485584145710. 2

485584145711. 3

485584145712. 4

Question Number : 44 Question Id : 48558436429 Question Type : MCQ Option Shuffling : No Is Question Mandatory : No Calculator : None Response Time : N.A Think Time : N.A Minimum Instruction Time : 0

Correct Marks : 5 Wrong Marks : 1

Question Key Details :

Key	Value
Comprehension	Comp1

Read the given paragraph and answer the question:

Humans have 23 pairs of chromosomes. 22 pairs are exactly same in both males and females; these are the autosomes. A pair of X-chromosome are present in the female, whereas the presence of an X and Y chromosome are determinant of the male characteristic.

A number of disorders in human beings have been found to be associated with the inheritance of changed or altered genes or chromosomes. Broadly, genetic disorder may be grouped into two categories-Mendelian disorders and Chromosomal disorders.

Which of the following is an example of a sex linked disease?

1. Ascariasis
2. Colour blindness
3. Thalassemia
4. Phenylketonuria

Options :

485584145713. 1
485584145714. 2
485584145715. 3
485584145716. 4

Question Number : 44 Question Id : 48558436429 Question Type : MCQ Option Shuffling : No Is Question Mandatory : No Calculator : None Response Time : N.A Think Time : N.A Minimum Instruction Time : 0

Correct Marks : 5 Wrong Marks : 1

Question Key Details :

Key	Value
Comprehension	Comp1

નીચેના ફક્ત વાંચો અને પ્રશ્નોના જવાબ આપો.

મનુષ્યમાં કુલ 23 જોડ રંગસૂત્રો આવેલા છે. તે પૈકી 22 જોડ નર અને માદામાં બિલકુલ સમાન છે. માદામાં X - રંગસૂત્રની એક જોડ હોય છે, અને નરમાં X - રંગસૂત્ર ઉપરાંત ઉપરાંત એક Y - રંગસૂત્ર હોય છે. જે નરના લક્ષણોને નિર્ધારિત કરે છે.

મનુષ્યમાં અસંખ્ય અનિયમિતતાઓ જોવા મળે છે. જે આનુવંશિકતા માં ફેરફારો અથવા જનીનિક ફેરફારો અથવા રંગસૂત્રીય ફેરફારો સાથે સંકળાયેલી છે વ્યાપક રીતે. જનીનિક અનિયમિતતાઓને બે જુથમાં મૂકી શકાય છે મેન્ડેલિયન અનિયમિતતા અને રંગસૂત્રીય અનુયમિતતા એક યુગલનું પ્રથમ બાળક પુત્રી હોવાની શક્યતા કેટલી હોય છે.

નીચેના પૈકી વિગ સંકલિત રોગનું ઉદાહરણ કયું છે ?

1. એસ્કેરિઆસિસ
2. રંગ અંધતા
3. થેલેસેમિયા
4. ફિનાઇનકીટોન્યુરિયા

Options :

485584145713. 1
485584145714. 2
485584145715. 3
485584145716. 4

Question Number : 45 Question Id : 48558436430 Question Type : MCQ Option Shuffling : No Is Question Mandatory : No Calculator : None Response Time : N.A Think Time : N.A Minimum Instruction Time : 0

Correct Marks : 5 Wrong Marks : 1

Question Key Details :

Key	Value
Comprehension	Comp1

Read the given paragraph and answer the question:

Humans have 23 pairs of chromosomes. 22 pairs are exactly same in both males and females; these are the autosomes. A pair of X-chromosome are present in the female, whereas the presence of an X and Y chromosome are determinant of the male characteristic.

A number of disorders in human beings have been found to be associated with the inheritance of changed or altered genes or chromosomes. Broadly, genetic disorder may be grouped into two categories-Mendelian disorders and Chromosomal disorders.

A colour blind man marries a carrier woman. Choose the possible progeny outcome.

1. All sons are born colourblind, while 50% the daughter born will be normal.
2. All children (sons and daughters) are born colour blind.
3. All daughters are normal whereas 50% of the sons born will be colour blind.
4. 50% of daughters and 50% of sons born will be colour blind.

Options :

485584145717. 1
485584145718. 2
485584145719. 3
485584145720. 4

Question Number : 45 Question Id : 48558436430 Question Type : MCQ Option Shuffling : No Is Question Mandatory : No Calculator : None Response Time : N.A Think Time : N.A Minimum Instruction Time : 0

Correct Marks : 5 Wrong Marks : 1

Question Key Details :

Key	Value
Comprehension	Comp1

નીચેના ફકરો વાંચો અને પ્રશ્નોના જવાબ આપો.

મનુષ્યમાં કુલ 23 જોડ રંગસૂત્રો આવેલા છે. તે પૈકી 22 જોડ નર અને માદામાં બિલકુલ સમાન છે. માદામાં X - રંગસૂત્રની એક જોડ હોય છે, અને નરમાં X - રંગસૂત્ર ઉપરાંત એક Y - રંગસૂત્ર હોય છે. જે નરના લક્ષણોને નિર્ધારિત કરે છે.

મનુષ્યમાં અસંખ્ય અનિયમિતતાઓ જોવા મળે છે. જે આનુવંશિકતા માં ફેરફારો અથવા જનીનિક ફેરફારો અથવા રંગસૂત્રીય ફેરફારો સાથે સંકળાયેલી છે વ્યાપક રીતે. જનીનિક અનિયમિતતાઓને બે જુથમાં મૂકી શકાય છે મેન્ડેલિયન અનિયમિતતા અને રંગસૂત્રીય અનુયમિતતા એક યુગલનું પ્રથમ બાળક પુત્રી હોવાની શક્યતા કેટલી હોય છે.

એક રંગઅંધ પુરુષ, એક વાહક સ્ત્રી સાથે લગ્ન કરે છે. આવનારી સંતતિઓ માટેની શક્યતા પસંદ કરો.

1. બધા જ પુત્રો રંગઅંધ જન્મશે, જ્યારે પુત્રીઓ સામાન્ય હશે.
2. બધા જ બાળકો (પુત્રો અને પુત્રીઓ) રંગઅંધ જન્મશે
3. બધી જ પુત્રીઓ સામાન્ય હશે જ્યારે 50% પુત્રો રંગઅંધ જન્મશે
4. 50% પુત્રીઓ અને 50% પુત્રો રંગઅંધ જન્મશે.

Options :

485584145717. 1
485584145718. 2
485584145719. 3
485584145720. 4

Sub-Section Number :

3

Sub-Section Id :

4855842692

Question Shuffling Allowed :

No

Is Section Default? :

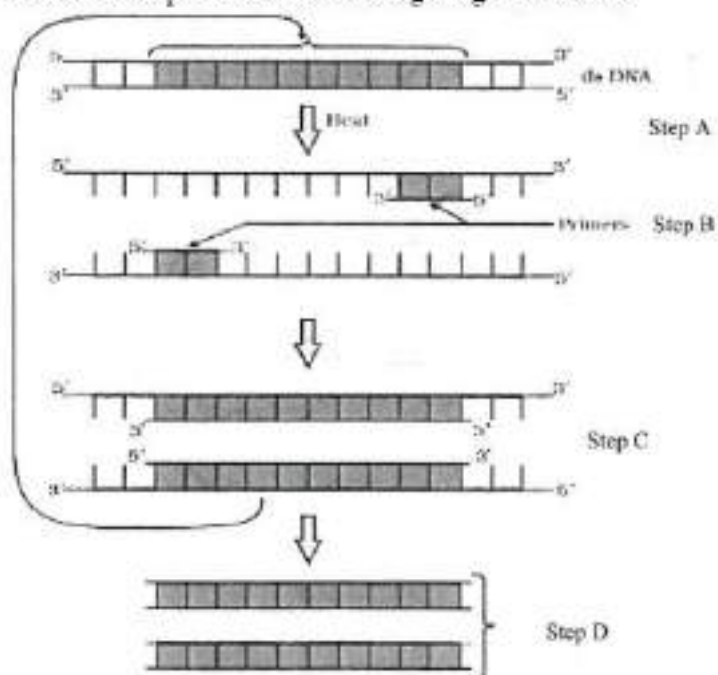
null

Question Number : 46 Question Id : 48558436431 Question Type : MCQ Option Shuffling : No Is Question Mandatory : No Calculator : None Response Time : N.A Think Time : N.A Minimum Instruction Time : 0

Correct Marks : 5 Wrong Marks : 1**Question Key Details :**

Key	Value
Comprehension	Comp2

Answer the questions from the figure given below:



If the reaction starts with one molecule of DNA, the number of cycles required to produce one billion amplified products is:

1. 8 cycles
2. 16 cycles
3. 30 cycles
4. 25 cycles

Options :

- 485584145721. 1
- 485584145722. 2
- 485584145723. 3
- 485584145724. 4

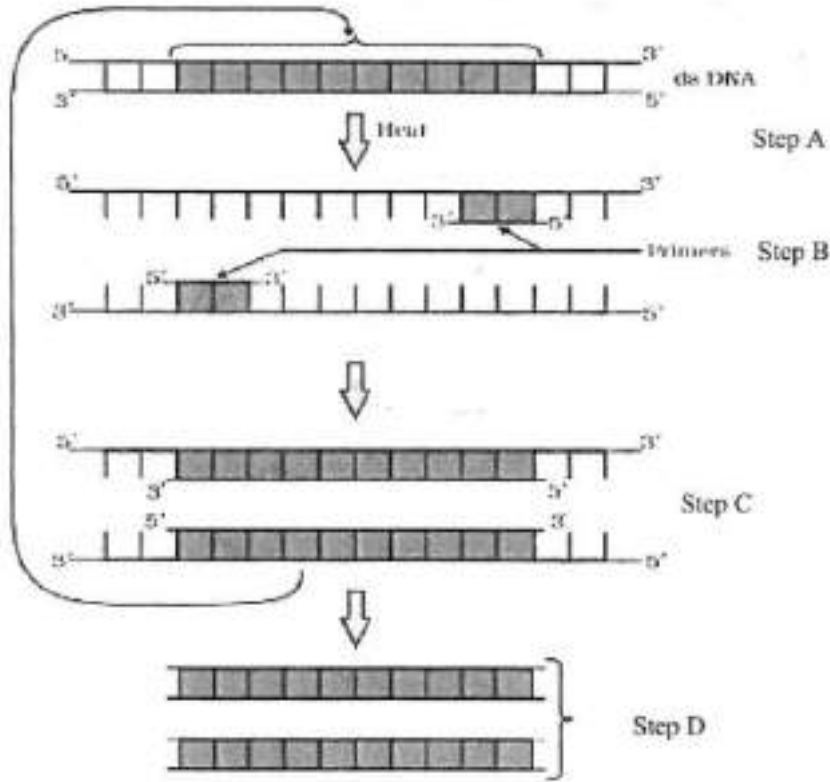
Question Number : 46 Question Id : 48558436431 Question Type : MCQ Option Shuffling : No Is Question Mandatory : No Calculator : None Response Time : N.A Think Time : N.A Minimum Instruction Time : 0

Correct Marks : 5 Wrong Marks : 1

Question Key Details :

Key	Value
Comprehension	Comp2

નીચે આપેલી આકૃતિ પરથી પ્રશ્નોના જવાબો આપો.



જો પ્રક્રિયા 1 DNA મોડ્યુલથી શરૂ થાય તો 1 અબજ DNA અણુઓના સંવર્ધન માટે કેટલા ચક્રોની જરૂર પડશે.

1. 8 ચક્રો
2. 16 ચક્રો
3. 30 ચક્રો
4. 25 ચક્રો

Options :

485584145721. 1
 485584145722. 2
 485584145723. 3
 485584145724. 4

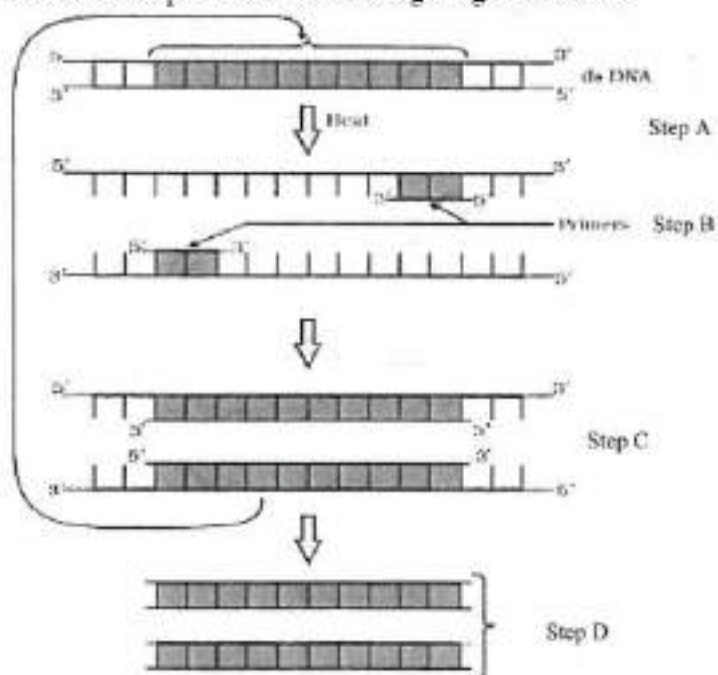
Question Number : 47 Question Id : 48558436432 Question Type : MCQ Option Shuffling : No Is Question Mandatory : No Calculator : None Response Time : N.A Think Time : N.A Minimum Instruction Time : 0

Correct Marks : 5 Wrong Marks : 1

Question Key Details :

Key	Value
Comprehension	Comp2

Answer the questions from the figure given below:



'Taq' in Taq polymerase stands for:

1. *Thermal aqua*
2. *Thermal aquaticus*
3. *Thermas aqua*
4. *Thermus aquaticus*

Options :

485584145725. 1
 485584145726. 2
 485584145727. 3
 485584145728. 4

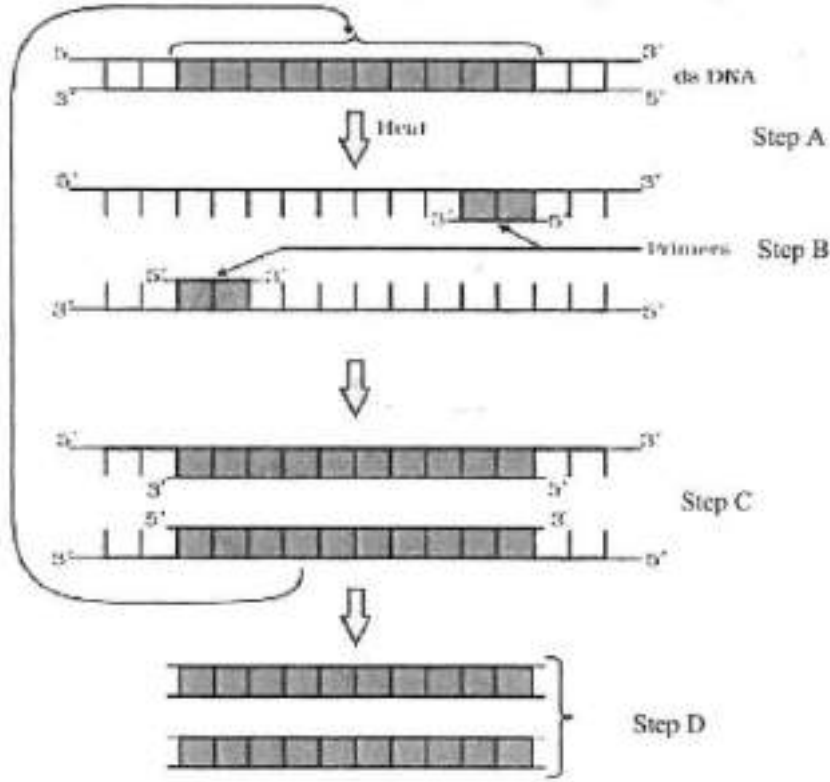
Question Number : 47 Question Id : 48558436432 Question Type : MCQ Option Shuffling : No Is Question Mandatory : No Calculator : None Response Time : N.A Think Time : N.A Minimum Instruction Time : 0

Correct Marks : 5 Wrong Marks : 1

Question Key Details :

Key	Value
Comprehension	Comp2

નીચે આપેલી આકૃતિ પરથી પ્રશ્નોના જવાબો આપો.



ટેક પોલીમરેઝમાં ટેક 'Taq' એટલે

1. થર્મલ એકવા
2. થર્મલ એકવેટિકસ
3. થર્મસ એકવા
4. થર્મસ એકવેટિકસ

Options :

485584145725. 1
485584145726. 2
485584145727. 3
485584145728. 4

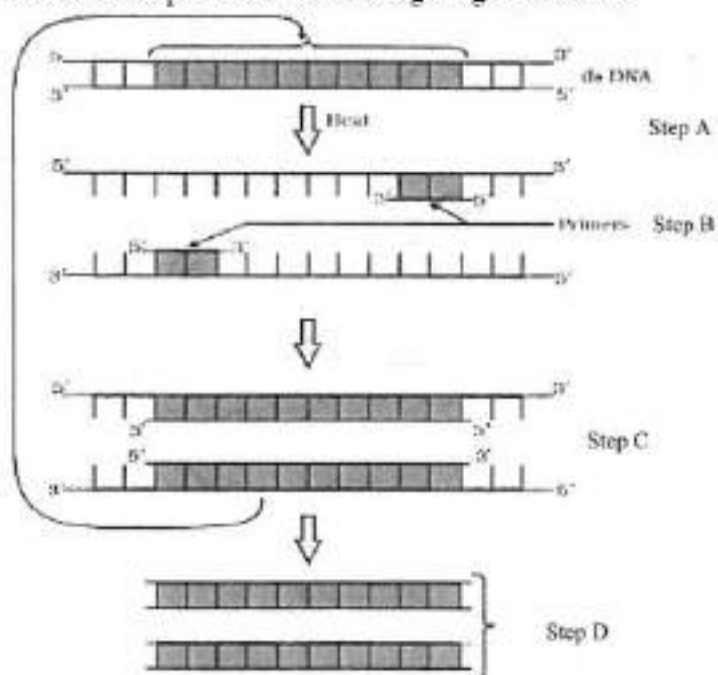
Question Number : 48 Question Id : 48558436433 Question Type : MCQ Option Shuffling : No Is Question Mandatory : No Calculator : None Response Time : N.A Think Time : N.A Minimum Instruction Time : 0

Correct Marks : 5 Wrong Marks : 1

Question Key Details :

Key	Value
Comprehension	Comp2

Answer the questions from the figure given below:



Taq polymerase is the preferred DNA polymerase in PCR because :

1. It is obtained from a fast breeding bacteria.
2. It can bind with the primers efficiently.
3. It remains active during high temperature.
4. It has high turnover rate.

Options :

- 485584145729. 1
- 485584145730. 2
- 485584145731. 3
- 485584145732. 4

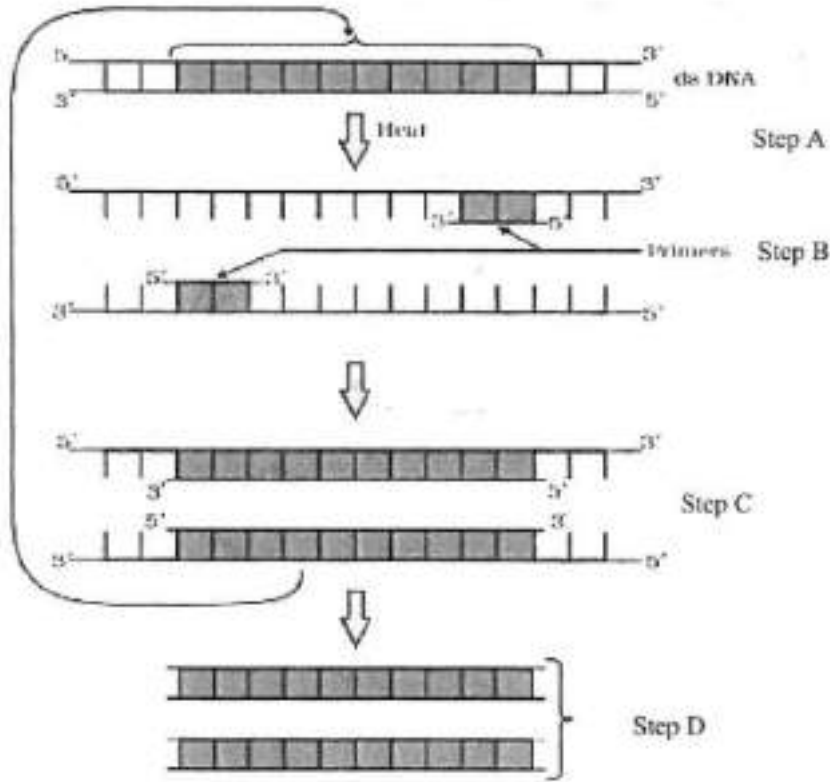
Question Number : 48 Question Id : 48558436433 Question Type : MCQ Option Shuffling : No Is Question Mandatory : No Calculator : None Response Time : N.A Think Time : N.A Minimum Instruction Time : 0

Correct Marks : 5 Wrong Marks : 1

Question Key Details :

Key	Value
Comprehension	Comp2

નીચે આપેલી આકૃતિ પરથી પ્રશ્નોના જવાબો આપો.



ટેક પોલીમરેઝ ને DNA પોલીમરેઝ તરીકે PCR માં પસંદ કરવામાં આવે છે કારણ કે

1. તે ઝડપી સંવર્ધન પામતા બેક્ટેરિયામાંથી મેળવવામાં આવે છે.
2. તે પ્રાઇમર્સ સાથે અસરકારક રીતે જોડાઇ શકે છે.
3. તે ઊંચા તાપમાને સક્રિય રહે છે.
4. તે ઊંચો ટર્નઓવર દર ધરાવે છે.

Options :

- 485584145729. 1
- 485584145730. 2
- 485584145731. 3
- 485584145732. 4

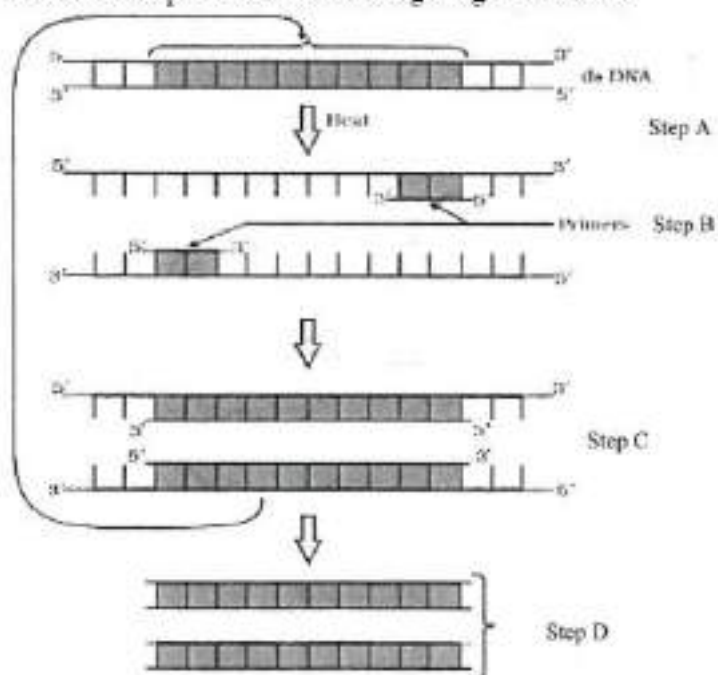
Question Number : 49 Question Id : 48558436434 Question Type : MCQ Option Shuffling : No Is Question Mandatory : No Calculator : None Response Time : N.A Think Time : N.A Minimum Instruction Time : 0

Correct Marks : 5 Wrong Marks : 1

Question Key Details :

Key	Value
Comprehension	Comp2

Answer the questions from the figure given below:



The step 'D' in the figure depicts:

1. Region where the restriction enzyme cuts.
2. An important gene of interest
3. Primer joining region
4. Only amplified product

Options :

- 485584145733. 1
- 485584145734. 2
- 485584145735. 3
- 485584145736. 4

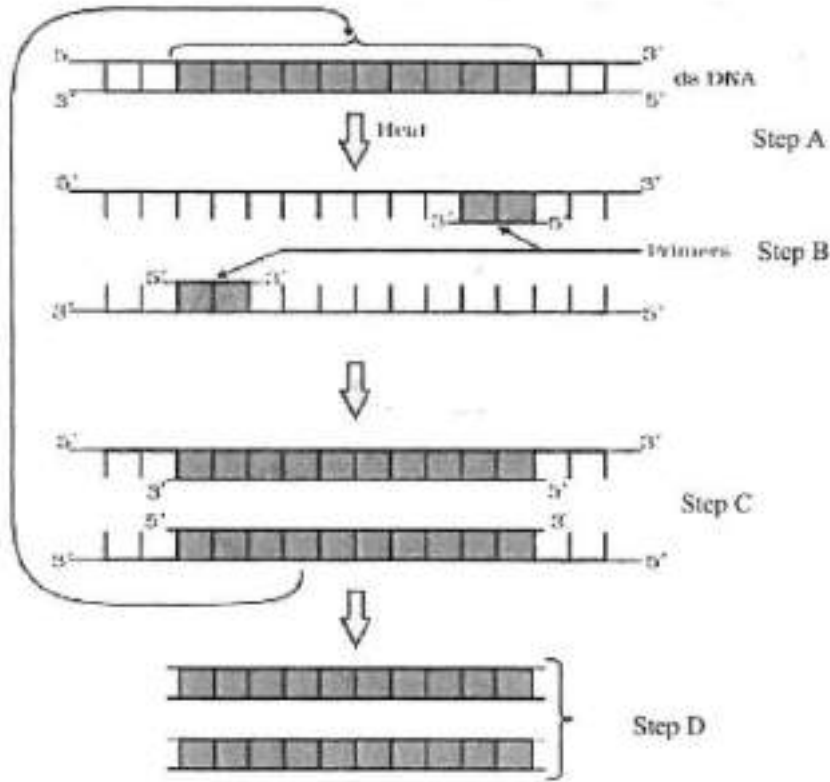
Question Number : 49 Question Id : 48558436434 Question Type : MCQ Option Shuffling : No Is Question Mandatory : No Calculator : None Response Time : N.A Think Time : N.A Minimum Instruction Time : 0

Correct Marks : 5 Wrong Marks : 1

Question Key Details :

Key	Value
Comprehension	Comp2

નીચે આપેલી આકૃતિ પરથી પ્રશ્નોના જવાબો આપો.



આકૃતિમાં ચરણ 'D' દર્શાવે છે.

1. પ્રદેશ કે જ્યાં રીસ્ટ્રીક્શન ઉત્સેચક કપાય છે
2. સૂચી મુજબનું અગત્યનું જનીન
3. પ્રાઈમરનું જોડાણ સ્થાન
4. ફક્ત સંવર્ધિત નીપજ

Options :

- 485584145733. 1
- 485584145734. 2
- 485584145735. 3
- 485584145736. 4

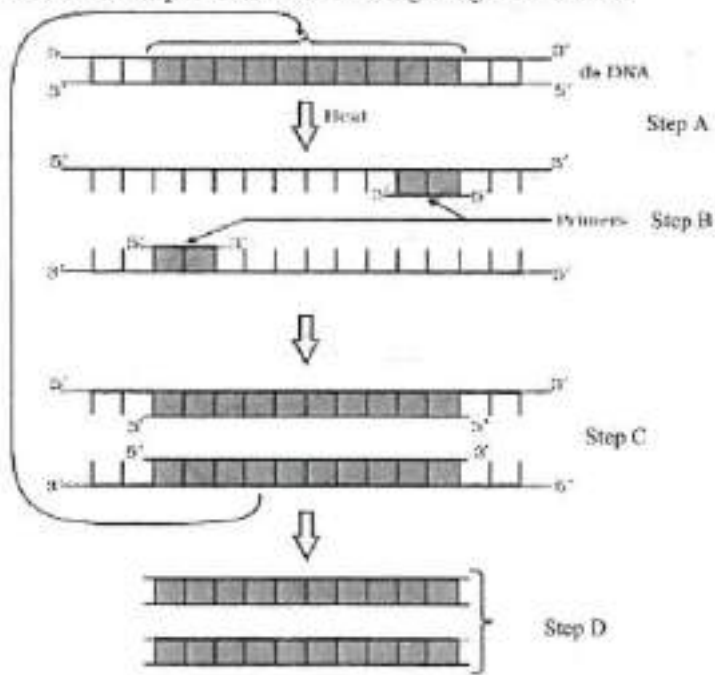
Question Number : 50 Question Id : 48558436435 Question Type : MCQ Option Shuffling : No Is Question Mandatory : No Calculator : None Response Time : N.A Think Time : N.A Minimum Instruction Time : 0

Correct Marks : 5 Wrong Marks : 1

Question Key Details :

Key	Value
Comprehension	Comp2

Answer the questions from the figure given below:



The step 'B' in the figure is called as:

1. Termination
2. Extension
3. Annealing
4. Reannealing

Options :

- 485584145737. 1
- 485584145738. 2
- 485584145739. 3
- 485584145740. 4

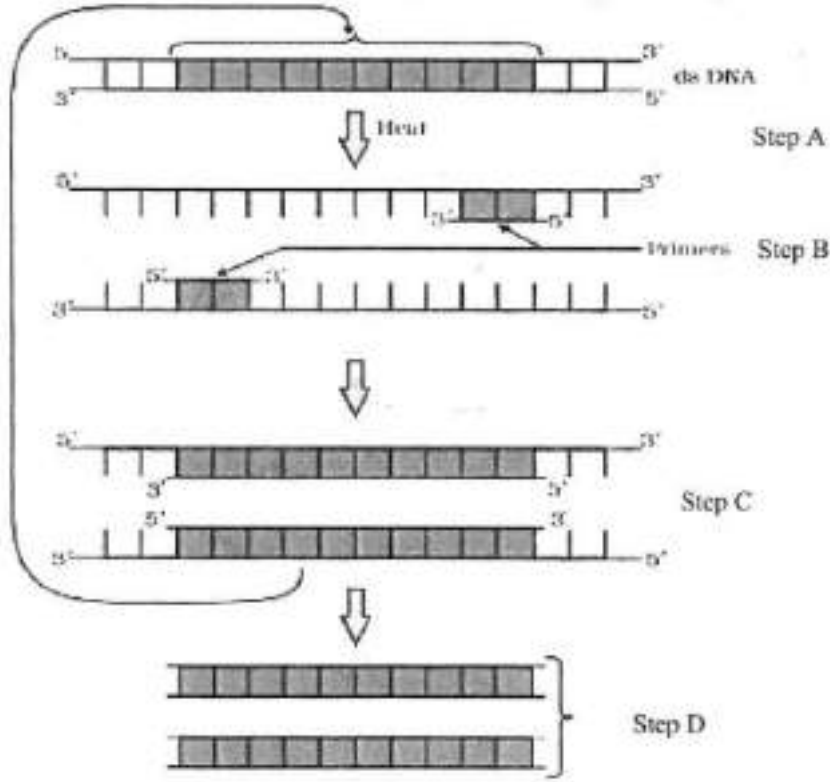
Question Number : 50 Question Id : 48558436435 Question Type : MCQ Option Shuffling : No Is Question Mandatory : No Calculator : None Response Time : N.A Think Time : N.A Minimum Instruction Time : 0

Correct Marks : 5 Wrong Marks : 1

Question Key Details :

Key	Value
Comprehension	Comp2

નીચે આપેલી આકૃતિ પરથી પ્રશ્નોના જવાબો આપો.



આકૃતિમાં ચરણ 'B' ને કહે છે.

1. ટર્મીનેશન
2. વિસ્તૃતીકરણ
3. તાપમાનુશીતન
4. પુનઃ તાપમાનુશીતન

Options :

- 485584145737. 1
- 485584145738. 2
- 485584145739. 3
- 485584145740. 4

Business Studies

Group Number :	3
Group Id :	485584823
Group Maximum Duration :	45
Group Minimum Duration :	45
Show Attended Group? :	No
Edit Attended Group? :	No
Break time :	0

Group Marks : 200
Is this Group for Examiner? : No
Examiner permission : Cant View
Show Progress Bar? : No

Business Studies

Section Id : 485584947
Section Number : 1
Section type : Online
Mandatory or Optional : Mandatory
Number of Questions : 50
Number of Questions to be attempted : 40
Section Marks : 200
Enable Mark as Answered Mark for Review and Clear Response : Yes
Maximum Instruction Time : 0
Sub-Section Number : 1
Sub-Section Id : 4855842693
Question Shuffling Allowed : Yes
Is Section Default? : null

Question Number : 51 Question Id : 48558436436 Question Type : MCQ Option Shuffling : No Is Question Mandatory : No Calculator : None Response Time : N.A Think Time : N.A Minimum Instruction Time : 0

Correct Marks : 5 Wrong Marks : 1

Question Key Details :

Key	Value
Comprehension	MCQ

Which of the following is not an importance of management ?

1. Management is group activity
2. Management creates a dynamic organization
3. Management helps in the development of society
4. Management increases efficiency

Options :

485584145741. 1
485584145742. 2
485584145743. 3
485584145744. 4

Question Number : 51 Question Id : 48558436436 Question Type : MCQ Option Shuffling : No Is Question Mandatory : No Calculator : None Response Time : N.A Think Time : N.A Minimum Instruction Time : 0

Correct Marks : 5 Wrong Marks : 1

Question Key Details :

Key	Value
Comprehension	MCQ

નીચે દર્શાવેલ વિધાન પૈકી કયું વિધાન સંચાલન સંદર્ભ મહત્વનું નથી.

1. સંચાલન એ જૂથ પ્રવૃત્તિ છે.
2. સંચાલન ગતિશીલ સંસ્થા ઉભી કરે છે.
3. સંચાલન સમાજના વિકાસમાં મદદકર્તા છે.
4. સંચાલન કાર્યક્ષમતામાં વધારો કરે છે.

Options :

485584145741. 1
485584145742. 2
485584145743. 3
485584145744. 4

Question Number : 52 Question Id : 48558436437 Question Type : MCQ Option Shuffling : No Is Question Mandatory : No Calculator : None Response Time : N.A Think Time : N.A Minimum Instruction Time : 0

Correct Marks : 5 Wrong Marks : 1

Question Key Details :

Key	Value
Comprehension	MCQ

Mc.Donalds, the fast food giant made major changes in its menu to be able to survive in Indian market. Which feature of management is reflected in above case ?

1. Management is an intangible force
2. Management is a dynamic function
3. Management is all pervasive
4. Management is multidimensional

Options :

485584145745. 1
485584145746. 2
485584145747. 3
485584145748. 4

Question Number : 52 Question Id : 48558436437 Question Type : MCQ Option Shuffling : No Is Question Mandatory : No Calculator : None Response Time : N.A Think Time : N.A Minimum Instruction Time : 0

Correct Marks : 5 Wrong Marks : 1

Question Key Details :

Key	Value
Comprehension	MCQ

ભારતીય બજારોમાં ટકી રહેવા માટે મેકડોનલ્સ નામની ફાસ્ટફૂડ વ્યાપારી સંસ્થા દ્વારા તેના મેનુમાં મોટા ફેરફાર કર્યા.
આ કિસ્સામાં સંચાલનની કઈ વાસ્તવિકતા પ્રતિબિંબ થાય છે.

1. સંચાલન એ અમૂર્ત બળ છે.
2. સંચાલન એ ગતિશીલ કાર્ય છે.
3. સંચાલન સર્વવ્યાપી છે.
4. સંચાલન અચ્ચે બહુપારિમાણિક છે.

Options :

485584145745. 1
485584145746. 2
485584145747. 3
485584145748. 4

**Question Number : 53 Question Id : 48558436438 Question Type : MCQ Option Shuffling : No Is Question Mandatory :
No Calculator : None Response Time : N.A Think Time : N.A Minimum Instruction Time : 0**

Correct Marks : 5 Wrong Marks : 1

Question Key Details :

Key	Value
Comprehension	MCQ

"Planning is an Activity which enables a manager to look ahead and anticipate changes." Identify the point of Importance of Planning.

1. Planning reduces the risk of uncertainty
2. Planning facilitates decision making
3. Planning establishes standards for controlling
4. Planning provide directions

Options :

485584145749. 1
485584145750. 2
485584145751. 3
485584145752. 4

**Question Number : 53 Question Id : 48558436438 Question Type : MCQ Option Shuffling : No Is Question Mandatory :
No Calculator : None Response Time : N.A Think Time : N.A Minimum Instruction Time : 0**

Correct Marks : 5 Wrong Marks : 1

Question Key Details :

Key	Value
Comprehension	MCQ

"આયોજન એ એક પ્રવૃત્તિ છે. જેમાં સંચાલક વિષય જોવે છે. અને આવનાર પરિવર્તનની આગાહી કરે છે." અહીં આયોજનનું મહત્વ ઓળખો.

1. આયોજન એ અનિયમિતતાના જોખમો ઓછાં કરે છે.
2. આયોજન નિર્ણય પ્રક્રિયાને મદદરૂપ છે.
3. આયોજન અંકુશ માટેના ધોરણો પ્રસ્થાપિત કરે છે.
4. આયોજન દિશા આપે છે.

Options :

485584145749. 1
485584145750. 2
485584145751. 3
485584145752. 4

Question Number : 54 Question Id : 48558436439 Question Type : MCQ Option Shuffling : No Is Question Mandatory : No Calculator : None Response Time : N.A Think Time : N.A Minimum Instruction Time : 0

Correct Marks : 5 Wrong Marks : 1

Question Key Details :

Key	Value
Comprehension	MCQ

Ravi is working as supervisor with Zinc limited. Identify the level of management at which Ravi is employed.

1. Top Management
2. Middle Management
3. Operational Management
4. Apex Management

Options :

485584145753. 1
485584145754. 2
485584145755. 3
485584145756. 4

Question Number : 54 Question Id : 48558436439 Question Type : MCQ Option Shuffling : No Is Question Mandatory : No Calculator : None Response Time : N.A Think Time : N.A Minimum Instruction Time : 0

Correct Marks : 5 Wrong Marks : 1

Question Key Details :

Key	Value
Comprehension	MCQ

રવિ ઝિંક લિમિટેડ સાથે સુપરવાઈઝર તરીકે કામ કરે છે. મેનેજમેન્ટના સ્તરને ઓળખો કે જ્યાં રવિ કાર્યરત છે.

1. ટીપ મેનેજમેન્ટ
2. મિડલ મેનેજમેન્ટ
3. ઓપરેશનલ મેનેજમેન્ટ
4. એપેક્સ મેનેજમેન્ટ પ્રક્રિયા

Options :

485584145753. 1
485584145754. 2
485584145755. 3
485584145756. 4

Question Number : 55 Question Id : 48558436440 Question Type : MCQ Option Shuffling : No Is Question Mandatory : No Calculator : None Response Time : N.A Think Time : N.A Minimum Instruction Time : 0

Correct Marks : 5 Wrong Marks : 1

Question Key Details :

Key	Value
Comprehension	MCQ

In this type of Organizational structure, the cost may increase since there may be a duplication of activities across products. Identify the organizational structure.

1. Functional Structure
2. Delegated Structure
3. Divisional Structure
4. Informal Structure

Options :

485584145757. 1
485584145758. 2
485584145759. 3
485584145760. 4

Question Number : 55 Question Id : 48558436440 Question Type : MCQ Option Shuffling : No Is Question Mandatory : No Calculator : None Response Time : N.A Think Time : N.A Minimum Instruction Time : 0

Correct Marks : 5 Wrong Marks : 1

Question Key Details :

Key	Value
Comprehension	MCQ

આ પ્રકારના વ્યવસ્થા તંત્રમાં ખર્ચ વધારે થાય છે કારણકે પુનરાવર્તન વધારે છે.

1. કાર્યપદ્ધતિ માળખું
2. કાર્યસોંપણીનું માળખું
3. ખાતાકીય માળખું
4. અવૈધિક માળખું

Options :

485584145757. 1
485584145758. 2
485584145759. 3
485584145760. 4

Question Number : 56 Question Id : 48558436441 Question Type : MCQ Option Shuffling : No Is Question Mandatory : No Calculator : None Response Time : N.A Think Time : N.A Minimum Instruction Time : 0

Correct Marks : 5 Wrong Marks : 1

Question Key Details :

Key	Value
Comprehension	MCQ

Divisional Structure is based on _____.

1. Product Lines
2. Functional Lines
3. Informal Basis
4. Occupational Specialization

Options :

485584145761. 1
485584145762. 2
485584145763. 3
485584145764. 4

Question Number : 56 Question Id : 48558436441 Question Type : MCQ Option Shuffling : No Is Question Mandatory : No Calculator : None Response Time : N.A Think Time : N.A Minimum Instruction Time : 0

Correct Marks : 5 Wrong Marks : 1

Question Key Details :

Key	Value
Comprehension	MCQ

ખાતાકીય માળખું એ _____ આધારીત છે.

1. પેદાશ લાઇન
2. કાર્યપધ્ધતિ લાઇન
3. અવૈધાનિક લાઇન
4. વ્યવસાયિક વિશિષ્ટીકરણ

Options :

485584145761. 1
485584145762. 2
485584145763. 3
485584145764. 4

Question Number : 57 Question Id : 48558436442 Question Type : MCQ Option Shuffling : No Is Question Mandatory : No Calculator : None Response Time : N.A Think Time : N.A Minimum Instruction Time : 0

Correct Marks : 5 Wrong Marks : 1

Question Key Details :

Key	Value
Comprehension	MCQ

_____ can be delegated.

1. Responsibility
2. Authority
3. Accountability
4. Answerability

Options :

485584145765. 1
485584145766. 2
485584145767. 3
485584145768. 4

Question Number : 57 Question Id : 48558436442 Question Type : MCQ Option Shuffling : No Is Question Mandatory : No Calculator : None Response Time : N.A Think Time : N.A Minimum Instruction Time : 0

Correct Marks : 5 Wrong Marks : 1

Question Key Details :

Key	Value
Comprehension	MCQ

ની સૌપણી ઘણ શકે.

1. જવાબદારી
2. સતી
3. ઉત્તરદાયિત્વ
4. જવાબદેહી

Options :

485584145765. 1
485584145766. 2
485584145767. 3
485584145768. 4

Question Number : 58 Question Id : 48558436443 Question Type : MCQ Option Shuffling : No Is Question Mandatory : No Calculator : None Response Time : N.A Think Time : N.A Minimum Instruction Time : 0

Correct Marks : 5 Wrong Marks : 1

Question Key Details :

Key	Value
Comprehension	MCQ

Test is a measure of individuals potential for learning new skills.

1. Trade tests
2. Personality tests
3. Aptitude tests
4. Intelligence tests

Options :

485584145769. 1
485584145770. 2
485584145771. 3
485584145772. 4

Question Number : 58 Question Id : 48558436443 Question Type : MCQ Option Shuffling : No Is Question Mandatory : No Calculator : None Response Time : N.A Think Time : N.A Minimum Instruction Time : 0

Correct Marks : 5 Wrong Marks : 1

Question Key Details :

Key	Value
Comprehension	MCQ

એ. વ્યક્તિને નવું શીખવાની ક્ષમતા માપે છે.

1. ટ્રેડ ટેસ્ટ (વંધાકીય કસોટી)
2. વ્યક્તિત્વ માપન કસોટી
3. અભિયોગ્યતા માપન કસોટી
4. બુદ્ધિ કસોટી

Options :

485584145769. 1
485584145770. 2
485584145771. 3
485584145772. 4

Question Number : 59 Question Id : 48558436444 Question Type : MCQ Option Shuffling : No Is Question Mandatory : No Calculator : None Response Time : N.A Think Time : N.A Minimum Instruction Time : 0

Correct Marks : 5 Wrong Marks : 1

Question Key Details :

Key	Value
Comprehension	MCQ

"Many reputed organizations keep a database of unsolicited applications in their offices based on which a list of job-seekers can be prepared and can be screened to fill the vacancies as they arise". Identify the source referred of recruitment above.

1. Direct Recruitment
2. Campus Recruitment
3. Labour Contractors
4. Casual Callers

Options :

485584145773. 1
485584145774. 2
485584145775. 3
485584145776. 4

Question Number : 59 Question Id : 48558436444 Question Type : MCQ Option Shuffling : No Is Question Mandatory : No Calculator : None Response Time : N.A Think Time : N.A Minimum Instruction Time : 0

Correct Marks : 5 Wrong Marks : 1

Question Key Details :

Key	Value
Comprehension	MCQ

ઘણી નાંમકીત સંસ્થાઓ અવૈચિક અરજીઓ જાળવી રાખે છે. આ શાનો સ્ત્રોત છે ?

1. સીધી ભરતી
2. શૈક્ષણિક સંસ્થામાં ભરતી
3. ઠેકેદાર દ્વારા ભરતી
4. છૂટક અથવા પ્રાસંગિક ભરતી

Options :

485584145773. 1
485584145774. 2
485584145775. 3
485584145776. 4

Question Number : 60 Question Id : 48558436445 Question Type : MCQ Option Shuffling : No Is Question Mandatory : No Calculator : None Response Time : N.A Think Time : N.A Minimum Instruction Time : 0

Correct Marks : 5 Wrong Marks : 1

Question Key Details :

Key	Value
Comprehension	MCQ

It involves shifting of an employee from one job to another, one department to another or from one shift to another, without a substantive change in the responsibilities and status of an employee. It is known as _____.

1. Training
2. Transfer
3. Promotion
4. Development

Options :

485584145777. 1
485584145778. 2
485584145779. 3
485584145780. 4

Question Number : 60 Question Id : 48558436445 Question Type : MCQ Option Shuffling : No Is Question Mandatory : No Calculator : None Response Time : N.A Think Time : N.A Minimum Instruction Time : 0

Correct Marks : 5 Wrong Marks : 1

Question Key Details :

Key	Value
Comprehension	MCQ

કર્મચારીની જવાબદારી કે પદ બદલ્યા વગર એક જગ્યાથી બીજી જગ્યાએ અન્યકાર્ય માટે ફેરવેલ કરવા એક ખાતામાંથી બીજા ખાતામાં બદલવા કે એક ખાતામાંથી બીજા ખાતામાં બદલવા-

1. તાલીમ
2. બદલી
3. બઢતી
4. વિકાસ

Options :

485584145777. 1
485584145778. 2
485584145779. 3
485584145780. 4

Question Number : 61 Question Id : 48558436446 Question Type : MCQ Option Shuffling : No Is Question Mandatory : No Calculator : None Response Time : N.A Think Time : N.A Minimum Instruction Time : 0

Correct Marks : 5 Wrong Marks : 1

Question Key Details :

Key	Value
Comprehension	MCQ

Organizational barriers to communication do not include :

1. Rules and regulations
2. Status
3. Organizational Policy
4. Lack of attention

Options :

485584145781. 1
485584145782. 2
485584145783. 3
485584145784. 4

Question Number : 61 Question Id : 48558436446 Question Type : MCQ Option Shuffling : No Is Question Mandatory : No Calculator : None Response Time : N.A Think Time : N.A Minimum Instruction Time : 0

Correct Marks : 5 Wrong Marks : 1

Question Key Details :

Key	Value
Comprehension	MCQ

સંસ્થાકીય માહિતીસંચારના અવરોધોમાં શાનો સમાવેશ થતો નથી.

1. નીતિ અને નિયમો.
2. દરજ્જો
3. સંસ્થાકીય નીતિ
4. ધ્યાનનો અભાવ

Options :

485584145781. 1
485584145782. 2
485584145783. 3
485584145784. 4

Question Number : 62 Question Id : 48558436447 Question Type : MCQ Option Shuffling : No Is Question Mandatory : No Calculator : None Response Time : N.A Think Time : N.A Minimum Instruction Time : 0

Correct Marks : 5 Wrong Marks : 1

Question Key Details :

Key	Value
Comprehension	MCQ

_____ means giving more autonomy and power to subordinates. This feeling contributes positively to the use of skills and talents in the job performance.

1. Employee Recognition Programme
2. Employee Empowerment
3. Status
4. Job Security

Options :

485584145785. 1
485584145786. 2
485584145787. 3
485584145788. 4

Question Number : 62 Question Id : 48558436447 Question Type : MCQ Option Shuffling : No Is Question Mandatory : No Calculator : None Response Time : N.A Think Time : N.A Minimum Instruction Time : 0

Correct Marks : 5 Wrong Marks : 1

Question Key Details :

Key	Value
Comprehension	MCQ

_____ નો અર્થ વધુ સત્તા અને સામર્થ્ય આપવી, જેથી તેના કૌશલ્ય અને પ્રતિભાનો કાર્ય કરવામા ઉપયોગ કરી શકે.

1. કર્મચારી સન્માન અને કદર
2. કર્મચારી સશક્તિકરણ
3. દરજ્જો
4. સલામતી

Options :

485584145785. 1
485584145786. 2
485584145787. 3
485584145788. 4

Question Number : 63 Question Id : 48558436448 Question Type : MCQ Option Shuffling : No Is Question Mandatory : No Calculator : None Response Time : N.A Think Time : N.A Minimum Instruction Time : 0

Correct Marks : 5 Wrong Marks : 1

Question Key Details :

Key	Value
Comprehension	MCQ

Which type of leader does not believe in the use of power unless it is absolutely essential ?

1. Free-rein / Laissez faire leader
2. Democratic leader
3. Autocratic leader
4. Participative leader

Options :

485584145789. 1
485584145790. 2
485584145791. 3
485584145792. 4

Question Number : 63 Question Id : 48558436448 Question Type : MCQ Option Shuffling : No Is Question Mandatory : No Calculator : None Response Time : N.A Think Time : N.A Minimum Instruction Time : 0

Correct Marks : 5 Wrong Marks : 1

Question Key Details :

Key	Value
Comprehension	MCQ

કયા પ્રકારના નેતા એ તેમને મળેલ સામર્થ્યનો ઉપયોગ અનિવાર્ય સંજોગો સિવાય કરતા નથી.

1. ફ્રી-રીન (કાબૂ આપનાર) નેતા
2. લોકશાહીભર્યું
3. નિરંકુશ
4. સહભાગી

Options :

485584145789. 1
485584145790. 2
485584145791. 3
485584145792. 4

Question Number : 64 Question Id : 48558436449 Question Type : MCQ Option Shuffling : No Is Question Mandatory : No Calculator : None Response Time : N.A Think Time : N.A Minimum Instruction Time : 0

Correct Marks : 5 Wrong Marks : 1

Question Key Details :

Key	Value
Comprehension	MCQ

The incentive is offered over and above the wages/salary to the employees is _____.

1. Project Sharing
2. Pay or Allowances
3. Perquisites
4. Bonus

Options :

485584145793. 1
485584145794. 2
485584145795. 3
485584145796. 4

Question Number : 64 Question Id : 48558436449 Question Type : MCQ Option Shuffling : No Is Question Mandatory : No Calculator : None Response Time : N.A Think Time : N.A Minimum Instruction Time : 0

Correct Marks : 5 Wrong Marks : 1

Question Key Details :

Key	Value
Comprehension	MCQ

કર્મચારીને વેતન કે પગાર ઉપરાંત ચુકવવામાં આવતાં પ્રોત્સાહનો એટલે _____

1. પ્રોજેક્ટમાં ભાગીદારી
2. પગાર અથવા ભથ્થા
3. સવલતો
4. બોનસ

Options :

485584145793. 1
485584145794. 2
485584145795. 3
485584145796. 4

Question Number : 65 Question Id : 48558436450 Question Type : MCQ Option Shuffling : No Is Question Mandatory : No Calculator : None Response Time : N.A Think Time : N.A Minimum Instruction Time : 0

Correct Marks : 5 Wrong Marks : 1

Question Key Details :

Key	Value
Comprehension	MCQ

Ashok went to a shop to buy a tooth paste. The shopkeeper showed him different varieties of toothpaste available in his shop. Ashok took one of them but had an allergy after using it. He later on checked that the product had crossed its expiry date. Which responsibility has Ashok ignored as a customer?

1. Read labels carefully for information such as net weight, price, expiry date etc.
2. Assert that you get a fair deal
3. Ask for a cash memo
4. Avoid waste, littering and contributing to pollution

Options :

485584145797. 1
485584145798. 2
485584145799. 3
485584145800. 4

Question Number : 65 Question Id : 48558436450 Question Type : MCQ Option Shuffling : No Is Question Mandatory : No Calculator : None Response Time : N.A Think Time : N.A Minimum Instruction Time : 0

Correct Marks : 5 Wrong Marks : 1

Question Key Details :

Key	Value
Comprehension	MCQ

અશોક ટૂથ પેસ્ટ ખરીદવા એક દુકાનમાં ગયો. દુકાનદારે તેનો ઉપયોગ કર્યા પછી તેને જુદી જુદી એવર્જી બતાવી. બાદમાં તેણે તપાસ કરી કે પ્રોડક્ટ તેની એક્સપાયરી ડેટ વટાવી ગઈ છે. ગ્રાહક તરીકે અશોકાએ કઈ જવાબદારીની અવગણના કરી છે?

1. નેટ વજન, કિંમત, સમાપ્તિ તારીખ વગેરે જેવી માહિતી માટે લેબલ્સ ધ્યાનપૂર્વક વાંચો.
2. ખાતરી કરો કે તમને વાજબી સોદો મળે છે
3. રોકડ મેમો માટે પૂછી
4. ક્યારે, ક્યારે અને પ્રદૂષણમાં ફાળો આપવાનું ટાળો

Options :

485584145797. 1
485584145798. 2
485584145799. 3
485584145800. 4

Question Number : 66 Question Id : 48558436451 Question Type : MCQ Option Shuffling : No Is Question Mandatory : No Calculator : None Response Time : N.A Think Time : N.A Minimum Instruction Time : 0

Correct Marks : 5 Wrong Marks : 1

Question Key Details :

Key	Value
Comprehension	MCQ

It is mandatory for the manufactures to provide information such as ingredients, date of manufacture, price, directions for use, price etc. The consumer right highlighted here is-

1. Right to safety
2. Right to be informed
3. Right to be heard
4. Right to Consumer Education

Options :

485584145801. 1
485584145802. 2
485584145803. 3
485584145804. 4

Question Number : 66 Question Id : 48558436451 Question Type : MCQ Option Shuffling : No Is Question Mandatory : No Calculator : None Response Time : N.A Think Time : N.A Minimum Instruction Time : 0

Correct Marks : 5 Wrong Marks : 1

Question Key Details :

Key	Value
Comprehension	MCQ

ઉત્પાદકો માટે ઘટકો, ઉત્પાદનની તારીખ, કિંમત, ઉપયોગ માટેના નિર્દેશો, કિંમત વગેરે જેવી માહિતી પ્રદાન કરવી ફરજિયાત છે. અહીં પ્રકાશિત થયેલ ગ્રાહક અધિકાર છે.

1. સલામતીનો અધિકાર
2. જાણ કરવાનો અધિકાર
3. સાંભળવાનો અધિકાર
4. ગ્રાહક શિક્ષણનો અધિકાર

Options :

485584145801. 1
485584145802. 2
485584145803. 3
485584145804. 4

Question Number : 67 Question Id : 48558436452 Question Type : MCQ Option Shuffling : No Is Question Mandatory : No Calculator : None Response Time : N.A Think Time : N.A Minimum Instruction Time : 0

Correct Marks : 5 Wrong Marks : 1

Question Key Details :

Key	Value
Comprehension	MCQ

Net working capital is computed as _____.

1. Gross current assets
2. Gross current assets - total debt
3. Current assets - External debt
4. Current assets - Current liabilities

Options :

485584145805. 1
485584145806. 2
485584145807. 3
485584145808. 4

Question Number : 67 Question Id : 48558436452 Question Type : MCQ Option Shuffling : No Is Question Mandatory : No Calculator : None Response Time : N.A Think Time : N.A Minimum Instruction Time : 0

Correct Marks : 5 Wrong Marks : 1

Question Key Details :

Key	Value
Comprehension	MCQ

ચોખ્ખી કાર્યશીલ મૂડીની ગણતરી કેવી રીતે થાય છે.

1. કુલ ચાલુ અસ્ક્યામતી
2. કુલ અસ્ક્યામતી - કુલ દેવું
3. ચાલુ અસ્ક્યામતી - બાહ્ય દેવું
4. ચાલુ અસ્ક્યામતી - ચાલુ દેવું

Options :

485584145805. 1
485584145806. 2
485584145807. 3
485584145808. 4

Question Number : 68 Question Id : 48558436453 Question Type : MCQ Option Shuffling : No Is Question Mandatory : No Calculator : None Response Time : N.A Think Time : N.A Minimum Instruction Time : 0

Correct Marks : 5 Wrong Marks : 1

Question Key Details :

Key	Value
Comprehension	MCQ

_____ of a company affects both the profitability and the financial risk.

1. Working Capital
2. Capital Structure
3. Fixed Capital
4. Dividend decision

Options :

485584145809. 1
485584145810. 2
485584145811. 3
485584145812. 4

Question Number : 68 Question Id : 48558436453 Question Type : MCQ Option Shuffling : No Is Question Mandatory : No Calculator : None Response Time : N.A Think Time : N.A Minimum Instruction Time : 0

Correct Marks : 5 Wrong Marks : 1

Question Key Details :

Key	Value
Comprehension	MCQ

એ કંપનીની નફાકારકતા અને નાણાકીય જોખમો ને અસરકર્તા છે.

1. કાર્યશીલ મૂડી
2. મૂડી માળખું
3. સ્થાયી મૂડી
4. ડીવીડન્ડ નિષ્ણય

Options :

485584145809. 1
485584145810. 2
485584145811. 3
485584145812. 4

Question Number : 69 Question Id : 48558436454 Question Type : MCQ Option Shuffling : No Is Question Mandatory : No Calculator : None Response Time : N.A Think Time : N.A Minimum Instruction Time : 0

Correct Marks : 5 Wrong Marks : 1

Question Key Details :

Key	Value
Comprehension	MCQ

Identify the decision in which a company has to choose where to invest its resources so that it is able to earn the maximum possible return for their investors.

1. Working capital decision
2. Financing decision
3. Dividend decision
4. Investment decision

Options :

485584145813. 1
485584145814. 2
485584145815. 3
485584145816. 4

Question Number : 69 Question Id : 48558436454 Question Type : MCQ Option Shuffling : No Is Question Mandatory : No Calculator : None Response Time : N.A Think Time : N.A Minimum Instruction Time : 0

Correct Marks : 5 Wrong Marks : 1

Question Key Details :

Key	Value
Comprehension	MCQ

નિર્ણયને ઓળખો કે જેમાં કંપનીએ તેના સંસાધનોનું ક્યાં રોકાણ કરવું તે પસંદ કરવાનું હોય છે જેથી તે તેમના રોકાણકારો માટે મહત્તમ શક્ય વળતર મેળવી શકે.

1. કાર્યકારી મૂડીનો નિર્ણય
2. નાણાંકીય નિર્ણય
3. ડિવિડન્ડ નિર્ણય
4. રોકાણનો નિર્ણય

Options :

485584145813. 1
485584145814. 2
485584145815. 3
485584145816. 4

Question Number : 70 Question Id : 48558436455 Question Type : MCQ Option Shuffling : No Is Question Mandatory : No Calculator : None Response Time : N.A Think Time : N.A Minimum Instruction Time : 0

Correct Marks : 5 Wrong Marks : 1

Question Key Details :

Key	Value
Comprehension	MCQ

Select the term that indicates Principles of Management are not rigid prescriptions.

1. Human behaviour
2. Mainly behaviour
3. Contingent
4. Flexible

Options :

485584145817. 1
485584145818. 2
485584145819. 3
485584145820. 4

Question Number : 70 Question Id : 48558436455 Question Type : MCQ Option Shuffling : No Is Question Mandatory : No Calculator : None Response Time : N.A Think Time : N.A Minimum Instruction Time : 0

Correct Marks : 5 Wrong Marks : 1

Question Key Details :

Key	Value
Comprehension	MCQ

એવો શબ્દ પસંદ કરો જે સૂચવે છે કે વ્યવસ્થાપનના સિદ્ધાંતો સખત પ્રિસ્કિપ્શનો નથી.

1. માનવ વર્તન
2. મૈત્રીપૂર્ણ વર્તન
3. આકસ્મિક
4. વપર્યાક

Options :

485584145817. 1
485584145818. 2
485584145819. 3
485584145820. 4

Question Number : 71 Question Id : 48558436456 Question Type : MCQ Option Shuffling : No Is Question Mandatory : No Calculator : None Response Time : N.A Think Time : N.A Minimum Instruction Time : 0

Correct Marks : 5 Wrong Marks : 1

Question Key Details :

Key	Value
Comprehension	MCQ

" People and materials must be in suitable places at appropriate time for maximum efficiency."

Application of this principle will lead to:

1. Hindrance in the activities of business/factory
2. Increased productivity and efficiency
3. No discrimination against anyone
4. Justice and kindness in the behaviour of managers.

Options :

485584145821. 1
485584145822. 2
485584145823. 3
485584145824. 4

Question Number : 71 Question Id : 48558436456 Question Type : MCQ Option Shuffling : No Is Question Mandatory : No Calculator : None Response Time : N.A Think Time : N.A Minimum Instruction Time : 0

Correct Marks : 5 Wrong Marks : 1

Question Key Details :

Key	Value
Comprehension	MCQ

"મહત્તમ કાર્યક્ષમતા માટે લોકો અને સામગ્રી યોગ્ય સમયે યોગ્ય જગ્યાએ હોવા જોઈએ."
આ સિદ્ધાંતનો ઉપયોગ આ તરફ દોરી જશે:

1. વ્યવસાય/કારખાનાની પ્રવૃત્તિઓમાં અવરોધ
2. ઉત્પાદકતા અને કાર્યક્ષમતામાં વધારો
3. કોઈની સાથે ભેદભાવ નહીં
4. મેનેજરોના વર્તનમાં ન્યાય અને દયા.

Options :

485584145821. 1
485584145822. 2
485584145823. 3
485584145824. 4

**Question Number : 72 Question Id : 48558436457 Question Type : MCQ Option Shuffling : No Is Question Mandatory :
No Calculator : None Response Time : N.A Think Time : N.A Minimum Instruction Time : 0**

Correct Marks : 5 Wrong Marks : 1

Question Key Details :

Key	Value
Comprehension	MCQ

In the principle of Scalar Chain, the shortest route for communication in case of emergency is called:

1. Gang Plank
2. Special route
3. Formal route
4. Protocol

Options :

485584145825. 1
485584145826. 2
485584145827. 3
485584145828. 4

**Question Number : 72 Question Id : 48558436457 Question Type : MCQ Option Shuffling : No Is Question Mandatory :
No Calculator : None Response Time : N.A Think Time : N.A Minimum Instruction Time : 0**

Correct Marks : 5 Wrong Marks : 1

Question Key Details :

Key	Value
Comprehension	MCQ

સ્કેવર ચેઇનના સિદ્ધાંતમાં, કટોકટીના કિસ્સામાં સદિશાવ્યવહાર માટેના સૌથી ટૂંકા માગને કહેવામાં આવે છે:

1. સમતલ સંપર્ક (Gang Plank)
2. વિશેષ રસ્તો
3. ઔપચારિક રસ્તો
4. ઔપચારિક (Protocol)

Options :

485584145825. 1
485584145826. 2
485584145827. 3
485584145828. 4

Question Number : 73 Question Id : 48558436458 Question Type : MCQ Option Shuffling : No Is Question Mandatory : No Calculator : None Response Time : N.A Think Time : N.A Minimum Instruction Time : 0

Correct Marks : 5 Wrong Marks : 1

Question Key Details :

Key	Value
Comprehension	MCQ

If any party is not satisfied by the order of District Commission, then appeal against such order can be made to state commission within a period of _____ days from the date of order.

1. Forty five
2. Thirty
3. Sixty
4. Forty

Options :

485584145829. 1
485584145830. 2
485584145831. 3
485584145832. 4

Question Number : 73 Question Id : 48558436458 Question Type : MCQ Option Shuffling : No Is Question Mandatory : No Calculator : None Response Time : N.A Think Time : N.A Minimum Instruction Time : 0

Correct Marks : 5 Wrong Marks : 1

Question Key Details :

Key	Value
Comprehension	MCQ

જો કોઇ પક્ષકારને જિલ્લા કક્ષાના આયોગના હુકમથી સંતોષ ન હોયતો તેની સામે રાજ્ય કક્ષાના આયોગ પાસે પુનઃ વિચારણા માટે _____ દિવસમાં જઇ શકે.

1. ૪૫ દિવસ
2. ૩૦ દિવસ
3. ૬૦ દિવસ
4. ૪૦ દિવસ

Options :

485584145829. 1
485584145830. 2
485584145831. 3
485584145832. 4

Question Number : 74 Question Id : 48558436459 Question Type : MCQ Option Shuffling : No Is Question Mandatory : No Calculator : None Response Time : N.A Think Time : N.A Minimum Instruction Time : 0

Correct Marks : 5 Wrong Marks : 1

Question Key Details :

Key	Value
Comprehension	MCQ

Functions of Entrepreneurship in relation to economic Development do not include :-

1. Contribution to GDP
2. Capital Formation
3. Generation of Employment
4. Generation of Business opportunities only for same business

Options :

485584145833. 1
485584145834. 2
485584145835. 3
485584145836. 4

Question Number : 74 Question Id : 48558436459 Question Type : MCQ Option Shuffling : No Is Question Mandatory : No Calculator : None Response Time : N.A Think Time : N.A Minimum Instruction Time : 0

Correct Marks : 5 Wrong Marks : 1

Question Key Details :

Key	Value
Comprehension	MCQ

આર્થિક વિકાસના સંદર્ભે એન્ટ્રોપેન્યોરશીપના ઉદ્યોગ સાહસિક કાર્યોમાં શાનો સમાવેશ થતો નથી.

1. કુલ ઘરેલું પેદાશ (GDP) માં ફાળો
2. મૂડી માળખું
3. રોજગારી સર્જન
4. પોતાનાજ પંચામાં વ્યાપારની નવી તકો ઉત્તી કરવી

Options :

485584145833. 1
485584145834. 2
485584145835. 3
485584145836. 4

Question Number : 75 Question Id : 48558436460 Question Type : MCQ Option Shuffling : No Is Question Mandatory : No Calculator : None Response Time : N.A Think Time : N.A Minimum Instruction Time : 0

Correct Marks : 5 Wrong Marks : 1

Question Key Details :

Key	Value
Comprehension	MCQ

The person who combines all factors of production, who takes risk to earn profit is called entrepreneur.
Entrepreneur is _____.

1. Subject
2. Verb
3. Outcome
4. Process

Options :

485584145837. 1
485584145838. 2
485584145839. 3
485584145840. 4

Question Number : 75 Question Id : 48558436460 Question Type : MCQ Option Shuffling : No Is Question Mandatory : No Calculator : None Response Time : N.A Think Time : N.A Minimum Instruction Time : 0

Correct Marks : 5 Wrong Marks : 1

Question Key Details :

Key	Value
Comprehension	MCQ

એવી વ્યક્તિ જે ઉત્પાદનના તમામ પરિબલો ભેગાં કરી જોખમો લઇ નફો કમાય છે, તેને આત્મપ્રેરણા ઉદ્યોગ સાહસિક કહેવાય.

અહીં આત્મપ્રેરણા એ _____ છે.

1. વિષય
2. ક્રિયાપદ
3. નિષ્ણ
4. પ્રક્રિયા

Options :

485584145837. 1
485584145838. 2
485584145839. 3
485584145840. 4

Question Number : 76 Question Id : 48558436461 Question Type : MCQ Option Shuffling : No Is Question Mandatory : No Calculator : None Response Time : N.A Think Time : N.A Minimum Instruction Time : 0

Correct Marks : 5 Wrong Marks : 1

Question Key Details :

Key	Value
Comprehension	MCQ

Zicon Ltd. has recently set a target of becoming market leader in sale of smart TV. Arrange the steps in the process of planning which will follow after setting of targets :

- A. Identifying alternative courses of action
- B. Implementing the plan
- C. Evaluating alternative courses
- D. Selecting an alternative
- E. Developing premises

Choose the correct answer from the options given below :

1. E, A, C, D, B
2. E, C, D, B, A
3. B, C, E, A, D
4. E, A, B, D, C

Options :

485584145841. 1
485584145842. 2
485584145843. 3
485584145844. 4

Question Number : 76 Question Id : 48558436461 Question Type : MCQ Option Shuffling : No Is Question Mandatory : No Calculator : None Response Time : N.A Think Time : N.A Minimum Instruction Time : 0

Correct Marks : 5 Wrong Marks : 1

Question Key Details :

Key	Value
Comprehension	MCQ

ઝીકોન લિમિટેડ દ્વારા સ્માર્ટ TV વેચાણમાં બજારમાં નેતૃત્વ લેવા માંગે છે. આ સંદર્ભનાં આયોજન સંદર્ભે નીચે દર્શાવેલ વિધાનને યોગ્ય ક્રમમાં ગોઠવો.

- A. વૈકલ્પિક કાર્યોને ઓળખવા
- B. આયોજનનું અમલીકરણ
- C. વૈકલ્પિક કાર્યોનું વિશ્લેષણ
- D. યોક્કસ વિકલ્પ પસંદગી
- E. આયોજન પ્રક્રિયામાં આધાર સ્પષ્ટ કરવા

નીચે આપેલ વિકલ્પમાંથી યોગ્ય અને સચો વિકલ્પ પસંદ કરો.

- 1. E, A, C, D, B
- 2. E, C, D, B, A
- 3. B, C, E, A, D
- 4. E, A, B, D, C

Options :

- 485584145841. 1
- 485584145842. 2
- 485584145843. 3
- 485584145844. 4

Question Number : 77 Question Id : 48558436462 Question Type : MCQ Option Shuffling : No Is Question Mandatory : No Calculator : None Response Time : N.A Think Time : N.A Minimum Instruction Time : 0

Correct Marks : 5 Wrong Marks : 1

Question Key Details :

Key	Value
Comprehension	MCQ

Arrange the correct sequence of steps in Organizing process.

- A. Identification and division of work
- B. Establishing authority and reporting relationships
- C. Assignment of Duties
- D. Departmentalization

Choose the correct answer from the options given below :

- 1. B, C, A, D
- 2. D, A, B, C
- 3. C, B, D, A
- 4. A, D, C, B

Options :

485584145845. 1
485584145846. 2
485584145847. 3
485584145848. 4

**Question Number : 77 Question Id : 48558436462 Question Type : MCQ Option Shuffling : No Is Question Mandatory :
No Calculator : None Response Time : N.A Think Time : N.A Minimum Instruction Time : 0**

Correct Marks : 5 Wrong Marks : 1

Question Key Details :

Key	Value
Comprehension	MCQ

આપેલ વિધાનો વ્યવસ્થાતંત્ર પ્રક્રિયાના સંદર્ભે યોગ્ય ક્રમમાં ગોઠવો.

- A. શ્રમવિભાજનની અને કાર્યોની ઓળખ
B. સત્તા સોંપણી અને આંતર સંબંધો પ્રસ્થાપિત કરવા.
C. ફરજ સોંપણી
D. કાર્યોનું વિભાગીકરણ

નીચે આપેલ વિકલ્પ પૈકી યોગ્ય અને સાચો વિકલ્પ પસંદ કરો.

1. B, C, A, D
2. D, A, B, C
3. C, B, D, A
4. A, D, C, B

Options :

485584145845. 1
485584145846. 2
485584145847. 3
485584145848. 4

**Question Number : 78 Question Id : 48558436463 Question Type : MCQ Option Shuffling : No Is Question Mandatory :
No Calculator : None Response Time : N.A Think Time : N.A Minimum Instruction Time : 0**

Correct Marks : 5 Wrong Marks : 1

Question Key Details :

Key	Value
Comprehension	MCQ

Mr. Prateek, the Production Manager of Zim Ltd. has selected the right workforce for his department. He decides the following steps which he would adopt in the process of staffing. Arrange them in correct sequence

- A. Performance Appraisal
- B. Compensation
- C. Placement and Orientation
- D. Promotion and Career Planning
- E. Training and development

Choose the correct answer from the options given below :

- 1. C, A, E, D, B
- 2. B, C, D, A, E
- 3. D, A, B, E, C
- 4. C, E, A, D, B

Options :

- 485584145849. 1
- 485584145850. 2
- 485584145851. 3
- 485584145852. 4

Question Number : 78 Question Id : 48558436463 Question Type : MCQ Option Shuffling : No Is Question Mandatory : No Calculator : None Response Time : N.A Think Time : N.A Minimum Instruction Time : 0

Correct Marks : 5 Wrong Marks : 1

Question Key Details :

Key	Value
Comprehension	MCQ

પ્રતિક એ ઝિમ લિમિટેડના ઉત્પાદન સંચાલક પોતાના વિભાગ માટે યોગ્ય કામદારોની પસંદગી કરી. કર્મચારી વ્યવસ્થા પ્રક્રિયા સંદર્ભે નીચે દર્શાવેલ વિધાનોને યોગ્ય ક્રમમાં ગોઠવો.

- A. કાર્ય-પ્રદર્શન મૂલ્યાંકન / કામગીરી મૂલ્યાંકન
- B. વળતર
- C. નિમણૂક અને એકમ પરિચય
- D. બઢતી અને કારકિર્દી આયોજન
- E. તાલીમ અને વિકાસ

નીચે આપેલ વિકલ્પ પૈકી યોગ્ય અને સાચો વિકલ્પ પસંદ કરો.

- 1. C, A, E, D, B
- 2. B, C, D, A, E
- 3. D, A, B, E, C
- 4. C, E, A, D, B

Options :

- 485584145849. 1

485584145850. 2
485584145851. 3
485584145852. 4

Question Number : 79 Question Id : 48558436464 Question Type : MCQ Option Shuffling : No Is Question Mandatory : No Calculator : None Response Time : N.A Think Time : N.A Minimum Instruction Time : 0

Correct Marks : 5 Wrong Marks : 1

Question Key Details :

Key	Value
Comprehension	MCQ

Arrange the steps of trading procedure of stock exchange in the correct sequence

- A. Delivering the shares
- B. Placing an Order
- C. Opening a Demat Account
- D. Execution of the order
- E. Settlement of transaction

Choose the correct answer from the options given below :

- 1. C, A, B, D, E
- 2. C, B, D, A, E
- 3. B, A, D, C, E
- 4. B, C, A, E, D

Options :

485584145853. 1
485584145854. 2
485584145855. 3
485584145856. 4

Question Number : 79 Question Id : 48558436464 Question Type : MCQ Option Shuffling : No Is Question Mandatory : No Calculator : None Response Time : N.A Think Time : N.A Minimum Instruction Time : 0

Correct Marks : 5 Wrong Marks : 1

Question Key Details :

Key	Value
Comprehension	MCQ

સ્ટોક એક્ષચેન્જમાં લે-વેચના સંદર્ભમાં નીચે આપેલ વિધાનોને યોગ્ય ક્રમમાં ગોઠવો.

- A. શેર સુપ્રસ્ત કરવા
- B. ઓર્ડર મૂકવો
- C. ડીમેટ ખાતુ ખોલાવવું
- D. ઓર્ડરનું અમલીકરણ
- E. વ્યવહારો ચૂકતે કરવા

નીચે આપેલ વિકલ્પ પૈકી યોગ્ય અને સાચો વિકલ્પ પસંદ કરો.

- 1. C, A, B, D, E
- 2. C, B, D, A, E
- 3. B, A, D, A, E
- 4. B, C, A, E, D

Options :

- 485584145853. 1
- 485584145854. 2
- 485584145855. 3
- 485584145856. 4

Question Number : 80 Question Id : 48558436465 Question Type : MCQ Option Shuffling : No Is Question Mandatory : No Calculator : None Response Time : N.A Think Time : N.A Minimum Instruction Time : 0

Correct Marks : 5 Wrong Marks : 1

Question Key Details :

Key	Value
Comprehension	MCQ

Arrange the following in proper sequence.

- A. Critical Point control and management by exception
- B. Performance should be measured in an objective and reliable manner
- C. Standards are set in both Quantitative as well as Qualitative terms
- D. Reveal the deviation between actual and desired results
- E. Taking corrective action

Choose the correct answer from the options given below :

- 1. A, B, C, D, E
- 2. E, D, C, B, A
- 3. C, B, D, A, E
- 4. A, C, B, E, D

Options :

- 485584145857. 1
- 485584145858. 2
- 485584145859. 3

485584145860. 4

Question Number : 80 Question Id : 48558436465 Question Type : MCQ Option Shuffling : No Is Question Mandatory : No Calculator : None Response Time : N.A Think Time : N.A Minimum Instruction Time : 0

Correct Marks : 5 Wrong Marks : 1

Question Key Details :

Key	Value
Comprehension	MCQ

નીચે આપેલ વિધનોને યોગ્ય ક્રમમાં ગોઠવો.

- A. નિર્ણાયક ભાગ નિયંત્રણ અને અપવાહ દ્વારા સંચાલન
- B. કામગીરી-પ્રદર્શનનું માપન હેતુલક્ષી અને વિશ્વસનીય રીતે કરવું જોઈએ.
- C. જથ્થા અને ગુણવત્તા બંને માટેનાં ધોરણો પ્રસ્થાપિત કરવા
- D. ઇચ્છિત અને વાસ્તવિક પરિણામોની તુલના કરવી
- E. સુધારાલક્ષી પગલાં લેવા

નીચે આપેલ વિકલ્પ પૈકી યોગ્ય અને સાચો વિકલ્પ પસંદ કરો.

- 1. A, B, C, D, E
- 2. E, D, C, B, A
- 3. C, B, D, A, E
- 4. A, C, B, E, D

Options :

- 485584145857. 1
- 485584145858. 2
- 485584145859. 3
- 485584145860. 4

Question Number : 81 Question Id : 48558436466 Question Type : MCQ Option Shuffling : No Is Question Mandatory : No Calculator : None Response Time : N.A Think Time : N.A Minimum Instruction Time : 0

Correct Marks : 5 Wrong Marks : 1

Question Key Details :

Key	Value
Comprehension	MCQ

Identify the correct combinations of Principles of Management.

- A. Division of work and motion study
- B. Equity and scalar chain
- C. Authority and Responsibility and Method Study
- D. Discipline and Order
- E. Initiative and Fatigue Study

Choose the correct answer from the options given below :

- 1. B and D Only
- 2. A and D Only
- 3. B and E Only
- 4. C and E Only

Options :

- 485584145861. 1
- 485584145862. 2
- 485584145863. 3
- 485584145864. 4

Question Number : 81 Question Id : 48558436466 Question Type : MCQ Option Shuffling : No Is Question Mandatory : No Calculator : None Response Time : N.A Think Time : N.A Minimum Instruction Time : 0

Correct Marks : 5 Wrong Marks : 1

Question Key Details :

Key	Value
Comprehension	MCQ

સંચાલનના સિદ્ધાંતો ઓમાંથી

- A. શ્રમવિભાજન અને ગતિ અભ્યાસ
- B. સમાનતા અને રૂઝિત સાંકળ
- C. સત્તા અને જવાબદારી અને કાર્યપદ્ધતિ અભ્યાસ
- D. શિસ્ત અને અનુક્રમ
- E. પ્રારંભ અને થાકનો અભ્યાસ

નીચે આપેલ વિકલ્પો પૈકી યોગ્ય અને સાચો વિકલ્પ પસંદ કરો.

- 1. B અને D માત્ર
- 2. A અને D માત્ર
- 3. B અને E માત્ર
- 4. C અને E માત્ર

Options :

- 485584145861. 1
- 485584145862. 2
- 485584145863. 3

Question Number : 82 Question Id : 48558436467 Question Type : MCQ Option Shuffling : No Is Question Mandatory : No Calculator : None Response Time : N.A Think Time : N.A Minimum Instruction Time : 0

Correct Marks : 5 Wrong Marks : 1

Question Key Details :

Key	Value
Comprehension	MCQ

Which of the following are the sources of Recruitment for a newly set organization?

- A. Unskilled workers required for unskilled work provided by labour contractor
- B. Promotion to the higher post
- C. Websites such as www.naukri.com & jobstostreet etc.
- D. Recommendations of employees
- E. Recruitment from educational institutions

Choose the correct answer from the options given below :

- 1. B Only
- 2. A, C and D Only
- 3. A, C & E Only
- 4. E Only

Options :

- 485584145865. 1
- 485584145866. 2
- 485584145867. 3
- 485584145868. 4

Question Number : 82 Question Id : 48558436467 Question Type : MCQ Option Shuffling : No Is Question Mandatory : No Calculator : None Response Time : N.A Think Time : N.A Minimum Instruction Time : 0

Correct Marks : 5 Wrong Marks : 1

Question Key Details :

Key	Value
Comprehension	MCQ

નવી શરુ થતી સંસ્થા માટે ભરતી માટેના સ્રોત ક્યા ક્યા હોઈ શકે ?

- A. બિન-કૌશલ્ય કામદારના ઠેકેદાર પાસેથી બિન-કૌશલ્ય કામદાર મેળવવા
- B. આગળના હોદ્દા પર બઢતી
- C. www.naukri.com અને jobstreet etc વિગેરે જીવી વેબસાઈટની ઉપયોગ
- D. કમચારીની ભવામણ
- E. શૈક્ષણિક સંસ્થાઓમાં જઈને ભરતી

નીચે આપેલ વિકલ્પો પૈકી યોગ્ય અને સાચો વિકલ્પ પસંદ કરો.

- 1. ફક્ત B
- 2. ફક્ત A, C, D
- 3. ફક્ત A, C, D, અને E
- 4. ફક્ત E

Options :

- 485584145865. 1
- 485584145866. 2
- 485584145867. 3
- 485584145868. 4

Question Number : 83 Question Id : 48558436468 Question Type : MCQ Option Shuffling : No Is Question Mandatory : No Calculator : None Response Time : N.A Think Time : N.A Minimum Instruction Time : 0

Correct Marks : 5 Wrong Marks : 1

Question Key Details :

Key	Value
Comprehension	MCQ

Which of the following statement/statements are not related with elements of Directing.

- A. Every manager in the organization supervise his/her subordinates
- B. It stimulates people to take up work voluntarily
- C. The process of influencing the behavior of people by making them strive voluntarily towards achievements of organizational goals
- D. Effective communication with subordinates
- E. Coordinating different functions of management

Choose the correct answer from the options given below :

- 1. E Only
- 2. A, B and D Only
- 3. D Only
- 4. B and C Only

Options :

- 485584145869. 1
- 485584145870. 2

485584145871. 3

485584145872. 4

Question Number : 83 Question Id : 48558436468 Question Type : MCQ Option Shuffling : No Is Question Mandatory : No Calculator : None Response Time : N.A Think Time : N.A Minimum Instruction Time : 0

Correct Marks : 5 Wrong Marks : 1

Question Key Details :

Key	Value
Comprehension	MCQ

નીચે આપેલા વિધાનો પૈકી કયું વિધાન દોરવણી સાથે સંબંધિત નથી.

- A. સંસ્થામાં દરેક નિરીક્ષક તેમની નીચેના કાર્યકર પર દેખરેખ રાખે.
- B. દરેક કામદારને સ્વેચ્છાએ પોતાનું કાર્ય કરવા પ્રેરે છે.
- C. સ્વેચ્છાએ સંસ્થાકીય લક્ષ્યાંકો પ્રાપ્ત કરવા લોકોની વર્તણૂક પર પ્રભાવ પાડવાની પ્રક્રિયા
- D. નીચે કાર્ય કરતા લોકો સાથે અસરકાર પ્રત્યાયન
- E. સંચાલનના વિવિધ કાર્યો સાથે સંકલન

નીચે આપેલા વિકલ્પોમાંથી સાચો જવાબ પસંદ કરો.

- 1. ફક્ત E
- 2. ફક્ત A, B અને D
- 3. ફક્ત D
- 4. ફક્ત B અને C

Options :

485584145869. 1

485584145870. 2

485584145871. 3

485584145872. 4

Question Number : 84 Question Id : 48558436469 Question Type : MCQ Option Shuffling : No Is Question Mandatory : No Calculator : None Response Time : N.A Think Time : N.A Minimum Instruction Time : 0

Correct Marks : 5 Wrong Marks : 1

Question Key Details :

Key	Value
Comprehension	MCQ

Which of the following is not related with "Critical point of control" concept?

- A. Control should focus on key result areas
- B. KRA's can never be set as critical points
- C. It is very easy and economical to keep a check on each and every activity of organization
- D. If anything goes wrong at the critical points the entire organization suffers
- E. In manufacturing organization, an increase of 5% in labour cost may be more troublesome than a 15% increase in postal charges

Choose the correct answer from the options given below :

- 1. A Only
- 2. C & B Only
- 3. C Only
- 4. D & E Only

Options :

- 485584145873. 1
- 485584145874. 2
- 485584145875. 3
- 485584145876. 4

Question Number : 84 Question Id : 48558436469 Question Type : MCQ Option Shuffling : No Is Question Mandatory : No Calculator : None Response Time : N.A Think Time : N.A Minimum Instruction Time : 0

Correct Marks : 5 Wrong Marks : 1

Question Key Details :

Key	Value
Comprehension	MCQ

નીચે દર્શાવેલ વિધાનો પૈકી "નિયંત્રણ નિર્ણાયક બિંદુ" સાથે સંબંધિત નથી.

- A. અંકુશ એ કી-રીઝલ્ટ (એરીયા-મુખ્ય પરીણામ વિસ્તારો) પર કેન્દ્રિત હોય છે.
- B. KRA ને ક્યારેય નિર્ણાયક બિંદુ રાખવા જોઈએ નહિ
- C. સંસ્થાની દરેકે દરેકે પ્રવૃત્તિ ઉપર નજર રાખવી એ સરળ અને વ્યાજબી છે.
- D. નિર્ણાયક બિંદુ વિશ્લેષણ ખોટું પડે તો સંસ્થાને સહન કરવાનું આવે.
- E. ઉત્પાદન ક્ષેત્રમાં શ્રમ પાછળ ખર્ચ 5% વધે તે 15% પોસ્ટલ ખર્ચ વધે તે કરતા વધુ નુકશાનકારક છે.

નીચે આપેલ વિકલ્પો પૈકી યોગ્ય અને સાચો વિકલ્પ પસંદ કરો.

- 1. ફક્ત A
- 2. ફક્ત C અને B
- 3. ફક્ત C
- 4. ફક્ત D અને E

Options :

- 485584145873. 1
- 485584145874. 2

485584145875. 3

485584145876. 4

Question Number : 85 Question Id : 48558436470 Question Type : MCQ Option Shuffling : No Is Question Mandatory : No Calculator : None Response Time : N.A Think Time : N.A Minimum Instruction Time : 0

Correct Marks : 5 Wrong Marks : 1

Question Key Details :

Key	Value
Comprehension	MCQ

What are the aspects of feasibility analysis under Entrepreneurship Development ?

- A. Technical Aspect
- B. Economic Aspect
- C. Financial Aspect
- D. Commercial Aspect
- E. Political Aspect

Choose the correct answer from the options given below :

- 1. A, B and C Only
- 2. A, B, D and E Only
- 3. A and B Only
- 4. A, B, C and D Only

Options :

485584145877. 1

485584145878. 2

485584145879. 3

485584145880. 4

Question Number : 85 Question Id : 48558436470 Question Type : MCQ Option Shuffling : No Is Question Mandatory : No Calculator : None Response Time : N.A Think Time : N.A Minimum Instruction Time : 0

Correct Marks : 5 Wrong Marks : 1

Question Key Details :

Key	Value
Comprehension	MCQ

આંતરપ્રેર્યોરશીપ વિકાસ અનુ સંધાને વ્યાહવારે વિશ્લેષણ (ફીઝીબીલીટી સ્ટડી)ના ઘટકો કયા ?

- A. ટેકનોલોજીકલ પાસાઓ
- B. આર્થિક પાસાઓ
- C. નાણાકીય પાસાઓ
- D. ધંધાકીય પાસાઓ
- E. કાનૂની / સંચાલકીય પાસાઓ

આપેલ વિકલ્પો પૈકી યોગ્ય અને સાચો વિકલ્પ પસંદ કરો.

1. ફક્ત A, B અને C
2. ફક્ત A, B, D અને E
3. ફક્ત A અને B
4. ફક્ત A, B, C અને D

Options :

- 485584145877. 1
- 485584145878. 2
- 485584145879. 3
- 485584145880. 4

Question Number : 86 Question Id : 48558436471 Question Type : MCQ Option Shuffling : No Is Question Mandatory : No Calculator : None Response Time : N.A Think Time : N.A Minimum Instruction Time : 0

Correct Marks : 5 Wrong Marks : 1

Question Key Details :

Key	Value
Comprehension	MCQ

Match List I with List II

LIST I		LIST II	
A.	Economic environment	I.	Legislations Passed
B.	Social environment	II.	Stock market Indices
C.	Technological environment	III.	New Methods and Techniques
D.	Legal environment	IV.	Traditions

Choose the correct answer from the options given below:

1. A-IV, B-III, C-II, D-I
2. A-II, B-IV, C-III, D-I
3. A-II, B-III, C-IV, D-I
4. A-II, B-I, C-III, D-IV

Options :

- 485584145881. 1
- 485584145882. 2
- 485584145883. 3

485584145884. 4

Question Number : 86 Question Id : 48558436471 Question Type : MCQ Option Shuffling : No Is Question Mandatory : No Calculator : None Response Time : N.A Think Time : N.A Minimum Instruction Time : 0

Correct Marks : 5 Wrong Marks : 1

Question Key Details :

Key	Value
Comprehension	MCQ

યાદી I અને યાદી IIના જોડાણ જોડો.

યાદી I	યાદી II
A. આર્થિક પર્યાવરણ	I. કાયદો પસાર કરવો
B. સામાજિક પર્યાવરણ	II. સ્ટોક જાહેર અને ભાવાંક
C. ટેકનોલોજીકલ પર્યાવરણ	III. નવી પ્રવિધિઓ અને પ્રયુક્તિઓ
D. કાનૂની પર્યાવરણ	IV. પ્રધાઓ

નીચેના વિધાનો પૈકી યોગ્ય અને સાચો વિકલ્પો પસંદ કરો.

1. A-IV, B-III, C-II, D-I
2. A-II, B-IV, C-III, D-I
3. A-II, B-III, C-IV, D-I
4. A-II, B-I, C-III, D-IV

Options :

485584145881. 1

485584145882. 2

485584145883. 3

485584145884. 4

Question Number : 87 Question Id : 48558436472 Question Type : MCQ Option Shuffling : No Is Question Mandatory : No Calculator : None Response Time : N.A Think Time : N.A Minimum Instruction Time : 0

Correct Marks : 5 Wrong Marks : 1

Question Key Details :

Key	Value
Comprehension	MCQ

Match List I with List II

LIST I		LIST II	
A.	Objectives	I.	General Statements
B.	Strategy	II.	Routine steps
C.	Policy	III.	Comprehensive plan
D.	Procedure	IV.	End point of planning

Choose the correct answer from the options given below:

1. A-IV, B-III, C-II, D-I
2. A-IV, B-II, C-III, D-I
3. A-IV, B-I, C-III, D-II
4. A-IV, B-III, C-I, D-II

Options :

485584145885. 1
485584145886. 2
485584145887. 3
485584145888. 4

Question Number : 87 Question Id : 48558436472 Question Type : MCQ Option Shuffling : No Is Question Mandatory : No Calculator : None Response Time : N.A Think Time : N.A Minimum Instruction Time : 0

Correct Marks : 5 Wrong Marks : 1

Question Key Details :

Key	Value
Comprehension	MCQ

યાદી I ને યાદી II ને જોડકા જોડો.

યાદી I		યાદી II	
A.	કેતુઓ	I.	સામાન્ય વિધાન
B.	વ્યૂહરચના	II.	ટીકુંદ વ્યહારો
C.	નીતિ	III.	સમગ્રવક્ત્રી આયોજન
D.	કાર્યપદ્ધતિ	IV.	આયોજનનું છેલ્લું બિંદુ

નીચેના વિધાનો પૈકી યોગ્ય અને સાચો વિકલ્પો પસંદ કરો.

1. A-IV, B-III, C-II, D-I
2. A-IV, B-II, C-III, D-I
3. A-IV, B-I, C-III, D-II
4. A-IV, B-III, C-I, D-II

Options :

485584145885. 1
485584145886. 2
485584145887. 3

Question Number : 88 Question Id : 48558436473 Question Type : MCQ Option Shuffling : No Is Question Mandatory : No Calculator : None Response Time : N.A Think Time : N.A Minimum Instruction Time : 0

Correct Marks : 5 Wrong Marks : 1

Question Key Details :

Key	Value
Comprehension	MCQ

Match List I with List II

LIST I (Controlling Process)		LIST II (Related Concept)	
A.	Analysing deviations	I.	It demands managerial attention
B.	Taking corrective action	II.	It becomes easy when quantitative terms are used
C.	Comparison of standard with actuals	III.	To determine acceptable range of deviations
D.	Setting performance standards	IV.	Serves as benchmarks towards which an organization strives to work

Choose the correct answer from the options given below:

1. A-I, B-III, C-II, D-IV
2. A-III, B-I, C-II, D-IV
3. A-III, B-II, C-I, D-IV
4. A-IV, B-III, C-II, D-I

Options :

- 485584145889. 1
- 485584145890. 2
- 485584145891. 3
- 485584145892. 4

Question Number : 88 Question Id : 48558436473 Question Type : MCQ Option Shuffling : No Is Question Mandatory : No Calculator : None Response Time : N.A Think Time : N.A Minimum Instruction Time : 0

Correct Marks : 5 Wrong Marks : 1

Question Key Details :

Key	Value
Comprehension	MCQ

યાદી I અને યાદી II સાથે જોડકા જોડો.

યાદી I	યાદી II
A. વિચલન વિશ્લેષણ	I. સંચાલકીય નિર્ણયનો માંગ
B. સુધારાવહી પગલાં	II. સંખ્યાકીય પરિભાષા વપરાશથી સરળ બને છે.
C. વાસ્તવિક અને સ્થાપિત ધોરણોની તુલના	III. વિચલનની સ્વોક્ત વિસ્તાર શીધવી.
D. ધોરણો પ્રસ્થાપિત કરવા	IV. સંસ્થાના સ્થાપિત ધોરણો જેને પ્રાપ્ત પ્રયત્ન કરવાની કરે છે.

નીચેના વિધાનો પૈકી યોગ્ય અને સાચો વિકલ્પો પસંદ કરો.

1. A-I, B-III, C-II, D-IV
2. A-III, B-I, C-II, D-IV
3. A-III, B-II, C-I, D-IV
4. A-IV, B-III, C-II, D-I

Options :

485584145889. 1
485584145890. 2
485584145891. 3
485584145892. 4

Question Number : 89 Question Id : 48558436474 Question Type : MCQ Option Shuffling : No Is Question Mandatory : No Calculator : None Response Time : N.A Think Time : N.A Minimum Instruction Time : 0

Correct Marks : 5 Wrong Marks : 1

Question Key Details :

Key	Value
Comprehension	MCQ

Match List I with List II

LIST I	LIST II
A. Interest Coverage Ratio	I. Rate of return
B. Choice of Technique	II. Fixed Capital
C. Credit Allowed	III. Capital structure
D. Capital budgeting decisions	IV. Working Capital

Choose the correct answer from the options given below:

1. A-II, B-III, C-IV, D-I
2. A-III, B-II, C-I, D-IV
3. A-III, B-II, C-IV, D-I
4. A-II, B-IV, C-III, D-I

Options :

485584145893. 1
485584145894. 2
485584145895. 3
485584145896. 4

Question Number : 89 Question Id : 48558436474 Question Type : MCQ Option Shuffling : No Is Question Mandatory : No Calculator : None Response Time : N.A Think Time : N.A Minimum Instruction Time : 0

Correct Marks : 5 Wrong Marks : 1

Question Key Details :

Key	Value
Comprehension	MCQ

યાદી I અને યાદી II સાથે જોડકાં જોડો

યાદી I	યાદી II
A. વ્યાજ કવરેજ રેશિયો	I. વળતરનો દર
B. તકનીકની પસંદગી	II. સ્થિર મૂડી
C. ક્રેડિટ મજૂર	III. ક્રેડિટ મજૂર
D. ક્રેડિટલ બજેટિંગ નિર્ણયો	IV. ક્રેડિટલ બજેટિંગ નિર્ણયો

નીચેના વિધાનો પૈકી યોગ્ય અને સાચો વિકલ્પ પસંદ કરો.

1. A-II, B-III, C-IV, D-I
2. A-III, B-II, C-I, D-IV
3. A-III, B-II, C-IV, D-I
4. A-II, B-IV, C-III, D-I

Options :

485584145893. 1
485584145894. 2
485584145895. 3
485584145896. 4

Question Number : 90 Question Id : 48558436475 Question Type : MCQ Option Shuffling : No Is Question Mandatory : No Calculator : None Response Time : N.A Think Time : N.A Minimum Instruction Time : 0

Correct Marks : 5 Wrong Marks : 1

Question Key Details :

Key	Value
Comprehension	MCQ

Match List I with List II

LIST I		LIST II	
A.	Shopping Products	I.	Cigarettes, Ice cream, Medicines
B.	Speciality Products	II.	Raw materials, Engines, Lubricants
C.	Industrial Products	III.	Radio, Jewellery, Furniture
D.	Convenience Products	IV.	Salon, Restaurant, Boutique

Choose the correct answer from the options given below:

1. A-I, B-II, C-IV, D-III
2. A-III, B-I, C-II, D-IV
3. A-III, B-IV, C-II, D-I
4. A-IV, B-III, C-II, D-I

Options :

485584145897. 1
485584145898. 2
485584145899. 3
485584145900. 4

Question Number : 90 Question Id : 48558436475 Question Type : MCQ Option Shuffling : No Is Question Mandatory : No Calculator : None Response Time : N.A Think Time : N.A Minimum Instruction Time : 0

Correct Marks : 5 Wrong Marks : 1

Question Key Details :

Key	Value
Comprehension	MCQ

યાદી I અને યાદી II સાથે જોડકા જોડો.

યાદી I		યાદી II	
A.	ખરીદ પેદાશ	I.	સિગારેટ, આઈસક્રીમ, દવાઓ
B.	વિશિષ્ટ પેદાશ	II.	કાચોમાલ, એન્જિન લુબ્રિકન્ટ્સ
C.	ઔદ્યોગિક પેદાશ	III.	રેડીઓ, ઘરણા, ફર્નિચર
D.	સગવડ પેદાશો	IV.	રિસ્ટોરન્ટ, બૂટીક સલૂન

નીચે દર્શાવેલ વિકલ્પ સાચો યોગ્ય અને સાચો વિકલ્પ પસંદ કરો.

1. A-I, B-II, C-IV, D-III
2. A-III, B-I, C-II, D-IV
3. A-III, B-IV, C-II, D-I
4. A-IV, B-III, C-II, D-I

Options :

485584145897. 1
485584145898. 2
485584145899. 3

485584145900.4

Sub-Section Number : 2
Sub-Section Id : 4855842694
Question Shuffling Allowed : No
Is Section Default? : null

Question Number : 91 Question Id : 48558436476 Question Type : MCQ Option Shuffling : No Is Question Mandatory : No Calculator : None Response Time : N.A Think Time : N.A Minimum Instruction Time : 0

Correct Marks : 5 Wrong Marks : 1

Question Key Details :

Key	Value
Comprehension	Comp1

Mr. Rehan has done a diploma in Financial market and its participants. Recently he got a chance to present his knowledge and train students in a school. He told students about various money market instruments. He mentioned about an instrument which is issued by R.B.I on behalf of Central Government. He told students that Banks use a system to borrow money (an instrument) to manage their CRR i.e Cash Reserve Ratio. Later, he mentioned a short term self liquidating instrument like Bills of Exchange that can be used for arranging working capital. He also told students about an instrument that helps to mobilise large amounts of money in short period by commercial banks. Lastly, Mr. Rehan spoke about an instrument that works as a replacement towards bank borrowing for large credit-worthy companies, its maturity period is 15 days to one year.

"He mentioned about an Instrument which is issued by RBI on behalf of Central Government" .

Identify the Money instrument to which the above given line is related to.

1. Call money
2. Commercial Papers
3. Treasury Bills
4. Commercial Bills

Options :

- 485584145901. 1
- 485584145902. 2
- 485584145903. 3
- 485584145904. 4

Question Number : 91 Question Id : 48558436476 Question Type : MCQ Option Shuffling : No Is Question Mandatory : No Calculator : None Response Time : N.A Think Time : N.A Minimum Instruction Time : 0

Correct Marks : 5 Wrong Marks : 1

Question Key Details :

Key	Value
Comprehension	Comp1

85નો વાંચો પ્રશ્ન 41 થી 45નાં જવાબ આપો.

રેહાનને 'નાણાકીય બજારો અને તેનો હિસ્સો' તે વિષય સાથે ડીપ્લોમા કર્યો. તેને તેનું આ જ્ઞાન વહેંચવા અને શાળામાં તાલીમ આપવાની તક મળી. તેણે વિદ્યાર્થીઓને નાણાકીય બજારમાં વપરાતા વિવિધ સાધનો વિષે વાત કરી. તેણે કેન્દ્ર સરકારવતી આર.બી.આઈ (RBI) દ્વારા ઉપયોગમાં લેવામાં આવતા વિવિધ સાધનોનો વિષે વાત કરી. બેંક દ્વારા ઉછીના નાણા લેવામાં આવતા સાધન (કેશ-રીઝર્વ-રેશિયો) CRR વિષે વાત કરી. ત્યારબાદ તેણે ટૂંકગાળાના સ્વ-વિસર્જિત નાણાકીય સાધનો જેવા કે 'બિલ્સ ઓફ એક્સચેન્જ' જેનો ઉપયોગ કાર્યશીલ મૂડી માટે કરવામાં આવે છે. તેનો ઉલ્લેખ કર્યો તેણે કોમર્શીયલ બેંક દ્વારા ટૂંકગાળામાં મોટા જથ્થામાં નાણા કેવી રીતે મેળવી (વહન) શકાય તેવા સાધનો વિષે જણાવ્યું છેલ્લે રેહાને એવા નાણાકીય સાધન વિષે વાત કરી જે મોટી ધિરાણ વાયક કંપની માટે ઉછીના નાણા તરીકે કાર્ય કરે જેની મુદત 15 દિવસથી 1 વર્ષ સુધીની હોય.

તેણે જણાવ્યું કે એવા નાણાકીય સાધન ઉલ્લેખ કર્યો જે કેન્દ્રસરકાર વતી RBI દ્વારા ઉપયોગમાં લેવામાં આવે છે.

નીચે દર્શાવેલ વિકલ્પમાંથી યોગ્ય વિકલ્પ પસંદ કરો.

1. કોલ મની
2. કોમર્શીયલ પેપર
3. ટ્રેઝરી બિલ
4. કોમર્શીયલ બિલ

Options :

485584145901. 1
485584145902. 2
485584145903. 3
485584145904. 4

Question Number : 92 Question Id : 48558436477 Question Type : MCQ Option Shuffling : No Is Question Mandatory : No Calculator : None Response Time : N.A Think Time : N.A Minimum Instruction Time : 0

Correct Marks : 5 Wrong Marks : 1

Question Key Details :

Key	Value
Comprehension	Comp1

Mr. Rehan has done a diploma in Financial market and its participants. Recently he got a chance to present his knowledge and train students in a school. He told students about various money market instruments. He mentioned about an instrument which is issued by R.B.I on behalf of Central Government. He told students that Banks use a system to borrow money (an instrument) to manage their CRR i.e Cash Reserve Ratio. Later, he mentioned a short term self liquidating instrument like Bills of Exchange that can be used for arranging working capital. He also told students about an instrument that helps to mobilise large amounts of money in short period by commercial banks. Lastly, Mr. Rehan spoke about an instrument that works as a replacement towards bank borrowing for large credit-worthy companies, its maturity period is 15 days to one year.

He told that Banks use a system to borrow money (an instrument) to manage their cash Reserve Ratio.

Which security amongst money market Instrument is mentioned here.

1. Call money
2. Commercial papers
3. Treasury bills
4. Commercial Bills

Options :

485584145905. 1
485584145906. 2
485584145907. 3
485584145908. 4

Question Number : 92 Question Id : 48558436477 Question Type : MCQ Option Shuffling : No Is Question Mandatory : No Calculator : None Response Time : N.A Think Time : N.A Minimum Instruction Time : 0

Correct Marks : 5 Wrong Marks : 1

Question Key Details :

Key	Value
Comprehension	Comp1

કકરો વાંચી પ્રશ્ન 41 થી 45નાં જવાબ આપો.

રેહાનને નાણાકીય બજારો અને તેનો હિસ્સો તે વિષય સાથે ડીપ્લોમાં કર્યો. તેને તેનું આ જ્ઞાન વહેંચવા અને શાળામાં તાલીમ આપવાની તક મળી. તેણે વિદ્યાર્થીઓને નાણાકીય બજારમાં વપરાતા વિવિધ સાધનો વિષે વાત કરી. તેણે કેન્દ્ર સરકારવતી આર.બી.આઈ (RBI) દ્વારા ઉપયોગમાં લેવામાં આવતા વિવિધ સાધનોનો વિષે વાત કરી. બેંક દ્વારા ઉછીના નાણા લેવામાં આવતા સાધન (કેશ-રીઝર્વ-રેશિયો) CRR વિષે વાત કરી. ત્યારબાદ તેણે ટૂંકગાળાના સ્વ-વિસર્જિત નાણાકીય સાધનો જેવા કે બિલ્સ ઓફ એક્સચેન્જ જેનો ઉપયોગ કાર્યશીલ મૂડી માટે કરવામાં આવે છે. તેનો ઉલ્લેખ કર્યો તેણે કોમર્શિયલ બેંક દ્વારા ટૂંકગાળામાં મોટા જથ્થામાં નાણા કેવી રીતે મેળવી (વહન) શકાય તેવા સાધનો વિષે જણાવ્યું છેલ્લે રેહાનને એવા નાણાકીય સાધન વિષે વાત કરી જે મોટી ધિરાણ વાયક કંપની માટે ઉછીના નાણા તરીકે કાર્ય કરે જેની મુદત 15 દિવસથી 1 વર્ષ સુધીની હોય.

તેણે ક્યું કે CRR (કેશ-રીઝર્વ રેશિયો) ની જાળવણી માટે _____ બેંક નો ઉપયોગ કરે છે.

1. કોલ મની
2. કોમર્શિયલ પેપર
3. ટ્રેઝરી બિલ
4. કોમર્શિયલ બિલ

Options :

485584145905. 1
485584145906. 2
485584145907. 3

Question Number : 93 Question Id : 48558436478 Question Type : MCQ Option Shuffling : No Is Question Mandatory : No Calculator : None Response Time : N.A Think Time : N.A Minimum Instruction Time : 0

Correct Marks : 5 Wrong Marks : 1

Question Key Details :

Key	Value
Comprehension	Compl

Mr. Rehan has done a diploma in Financial market and its participants. Recently he got a chance to present his knowledge and train students in a school. He told students about various money market instruments. He mentioned about an instrument which is issued by R.B.I on behalf of Central Government. He told students that Banks use a system to borrow money (an instrument) to manage their CRR i.e Cash Reserve Ratio. Later, he mentioned a short term self liquidating instrument like Bills of Exchange that can be used for arranging working capital. He also told students about an instrument that helps to mobilise large amounts of money in short period by commercial banks. Lastly, Mr. Rehan spoke about an instrument that works as a replacement towards bank borrowing for large credit-worthy companies, its maturity period is 15 days to one year.

"A short term self liquidating like Bills of Exchange than can be used for arranging working capital".

Which Money Market instrument, was Mr. Rehan referring to?

1. Call money
2. Certificate of Deposit
3. Commercial bills
4. Commercial papers

Options :

485584145909. 1
 485584145910. 2
 485584145911. 3
 485584145912. 4

Question Number : 93 Question Id : 48558436478 Question Type : MCQ Option Shuffling : No Is Question Mandatory : No Calculator : None Response Time : N.A Think Time : N.A Minimum Instruction Time : 0

Correct Marks : 5 Wrong Marks : 1

Question Key Details :

Key	Value
Comprehension	Compl

ક્રમ 41 થી 45ના જવાબ આપો.

રેહાને 'નાણાકીય બજારો અને તેનો હિસ્સો' તે વિષય સાથે ડીપ્લોમા કર્યો. તેને તેનું આ જ્ઞાન વહેંચવા અને શાળામાં તાલીમ આપવાની તક મળી. તેણે વિદ્યાર્થીઓને નાણાકીય બજારમાં વપરાતા વિવિધ સાધનો વિષે વાત કરી. તેણે કેન્દ્ર સરકારવતી આર.બી.આઈ (RBI) દ્વારા ઉપયોગમાં લેવામાં આવતા વિવિધ સાધનોનો વિષે વાત કરી. બેંક દ્વારા ઉછીના નાણા લેવામાં આવતા સાધન (કેશ-રીઝર્વ-રેશિયો) CRR વિષે વાત કરી. ત્યારબાદ તેણે ટૂંકગાળાના સ્વ-વિસર્જિત નાણાકીય સાધનો જેવા કે 'બિલ્સ ઓફ એક્સચેન્જ' જેનો ઉપયોગ કાર્યશીલ મૂડી માટે કરવામાં આવે છે. તેનો ઉલ્લેખ કર્યો તેણે કોમર્શીયલ બેંક દ્વારા ટૂંકગાળામાં મોટા જથ્થામાં નાણા કેવી રીતે મેળવી (વહન) શકાય તેવા સાધનો વિષે જણાવ્યું છેલ્લે રેહાને એવા નાણાકીય સાધન વિષે વાત કરી જે મોટી ધિરાણ વાયક કંપની માટે ઉછીના નાણા તરીકે કાર્ય કરે જેની મુદત 15 દિવસથી 1 વર્ષ સુધીની હોય.

રેહાન નીચે દર્શાવેલ વિધાનમાં શાનો ઉલ્લેખ કરે છે. 'ટૂંકગાળાના સ્વ-વિસર્જિત નાણાકીય સાધન જેનો ઉપયોગ કાર્યશીલ મૂડી માટે થાય'

1. કોલમની
2. સર્ટીફિકેટ ઓફ ડીપોઝિટ
3. કોમર્શીયલ બિલ
4. કોમર્શીયલ પેપર

Options :

485584145909. 1
485584145910. 2
485584145911. 3
485584145912. 4

Question Number : 94 Question Id : 48558436479 Question Type : MCQ Option Shuffling : No Is Question Mandatory : No Calculator : None Response Time : N.A Think Time : N.A Minimum Instruction Time : 0

Correct Marks : 5 Wrong Marks : 1

Question Key Details :

Key	Value
Comprehension	Compl

Mr. Rehan has done a diploma in Financial market and its participants. Recently he got a chance to present his knowledge and train students in a school. He told students about various money market instruments. He mentioned about an instrument which is issued by R.B.I on behalf of Central Government. He told students that Banks use a system to borrow money (an instrument) to manage their CRR i.e Cash Reserve Ratio. Later, he mentioned a short term self liquidating instrument like Bills of Exchange that can be used for arranging working capital. He also told students about an instrument that helps to mobilise large amounts of money in short period by commercial banks. Lastly, Mr. Rehan spoke about an instrument that works as a replacement towards bank borrowing for large credit-worthy companies, its maturity period is 15 days to one year.

"An instrument that helps to mobilise large amounts of money in short period by commercial banks".

Identify the money market instrument stated above :

1. Certificate of Deposit
2. Call money
3. Commercial bills
4. Treasury bills

Options :

485584145913. 1
485584145914. 2
485584145915. 3
485584145916. 4

Question Number : 94 Question Id : 48558436479 Question Type : MCQ Option Shuffling : No Is Question Mandatory : No Calculator : None Response Time : N.A Think Time : N.A Minimum Instruction Time : 0

Correct Marks : 5 Wrong Marks : 1

Question Key Details :

Key	Value
Comprehension	Comp1

ક્રમ 41 થી 45ના જવાબ આપો.

રેહાનને 'નાણાકીય બજારો અને તેનો હિસ્સો' તે વિષય સાથે ડીપ્લોમાં કર્યો. તેને તેનું આ જ્ઞાન વહેંચવા અને શાળામાં તાલીમ આપવાની તક મળી. તેણે વિદ્યાર્થીઓને નાણાકીય બજારમાં વપરાતા વિવિધ સાધનો વિષે વાત કરી. તેણે કેન્દ્ર સરકારવતી આર.બી.આઈ (RBI) દ્વારા ઉપયોગમાં લેવામાં આવતા વિવિધ સાધનોનો વિષે વાત કરી. બેંક દ્વારા ઉછીના નાણા લેવામાં આવતા સાધન (કેશ-રીઝર્વ-રેશિયો) CRR વિષે વાત કરી. ત્યારબાદ તેણે ટૂંકગાળાના સ્વ-વિસર્જિત નાણાકીય સાધનો જેવા કે 'બિલ્સ ઓફ એક્સચેન્જ' જેનો ઉપયોગ કાર્યશીલ મૂડી માટે કરવામાં આવે છે. તેનો ઉલ્લેખ કર્યો તેણે કોમર્શીયલ બેંક દ્વારા ટૂંકગાળામાં મોટા જથ્થામાં નાણા કેવી રીતે મેળવી (વહન) શકાય તેવા સાધનો વિષે જણાવ્યું છેલ્લે રેહાને એવા નાણાકીય સાધન વિષે વાત કરી જે મોટી ધિરાણ વાયક કંપની માટે ઉછીના નાણા તરીકે કાર્ય કરે જેની મુદત 15 દિવસથી 1 વર્ષ સુધીની હોય.

એવું નાણાકીય સાધન જે કોમર્શીયલ બેંક દ્વારા મોટી મૂડીનું વહન કરી શકે મેળવી શકે _____

1. સર્ટીફિકેટ ઓફ ડીપોઝિટ
2. કોલમની
3. કોમર્શીયલ બિલ
4. ટ્રેઝરી બિલ

Options :

485584145913. 1

485584145914. 2
485584145915. 3
485584145916. 4

Question Number : 95 Question Id : 48558436480 Question Type : MCQ Option Shuffling : No Is Question Mandatory : No Calculator : None Response Time : N.A Think Time : N.A Minimum Instruction Time : 0

Correct Marks : 5 Wrong Marks : 1

Question Key Details :

Key	Value
Comprehension	Comp1

Mr. Rehan has done a diploma in Financial market and its participants. Recently he got a chance to present his knowledge and train students in a school. He told students about various money market instruments. He mentioned about an instrument which is issued by R.B.I on behalf of Central Government. He told students that Banks use a system to borrow money (an instrument) to manage their CRR i.e Cash Reserve Ratio. Later, he mentioned a short term self liquidating instrument like Bills of Exchange that can be used for arranging working capital. He also told students about an instrument that helps to mobilise large amounts of money in short period by commercial banks. Lastly, Mr. Rehan spoke about an instrument that works as a replacement towards bank borrowing for large credit-worthy companies, its maturity period is 15 days to one year.

"An instrument that works as a replacement towards bank borrowing for large Credit-worthy companies, its maturity period is 15 days to one year".

Identify the money market instrument stated in the above lines.

1. Call money
2. Commercial papers
3. Commercial bills
4. Certificate of Deposit

Options :

485584145917. 1
485584145918. 2
485584145919. 3
485584145920. 4

Question Number : 95 Question Id : 48558436480 Question Type : MCQ Option Shuffling : No Is Question Mandatory : No Calculator : None Response Time : N.A Think Time : N.A Minimum Instruction Time : 0

Correct Marks : 5 Wrong Marks : 1

Question Key Details :

Key	Value
Comprehension	Comp1

ક્રકરો વાંચો પ્રશ્ન 41 થી 45નાં જવાબ આપો.

રેહાનને 'નાણાકીય બજારો અને તેનો હિસ્સો' તે વિષય સાથે ડીપ્લોમા કર્યો. તેને તેનું આ જ્ઞાન વહેંચવા અને શાળામાં તાલીમ આપવાની તક મળી. તેણે વિદ્યાર્થીઓને નાણાકીય બજારમાં વપરાતા વિવિધ સાધનો વિષે વાત કરી. તેણે કેન્દ્ર સરકારવતી આર.બી.આઈ (RBI) દ્વારા ઉપયોગમાં લેવામાં આવતા વિવિધ સાધનોનો વિષે વાત કરી. બેંક દ્વારા ઉછીના નાણા લેવામાં આવતા સાધન (કેશ-રીઝર્વ-રેશિયો) CRR વિષે વાત કરી. ત્યારબાદ તેણે ટૂંકગાળાના સ્વ-વિસર્જિત નાણાકીય સાધનો જેવા કે 'બિલ્સ ઓફ એક્સચેન્જ' જેનો ઉપયોગ કાર્યશીલ મૂડી માટે કરવામાં આવે છે. તેનો ઉલ્લેખ કર્યો તેણે કોમર્શીયલ બેંક દ્વારા ટૂંકગાળામાં મોટા જથ્થામાં નાણા કેવી રીતે મેળવી (વહન) શકાય તેવા સાધનો વિષે જણાવ્યું છેલ્લે રેહાને એવા નાણાકીય સાધન વિષે વાત કરી જે મોટી ધિરાણ વાયક કંપની માટે ઉછીના નાણા તરીકે કાર્ય કરે જેની મુદત 15 દિવસથી 1 વર્ષ સુધીની હોય.

એવું નાણાકીય સાધન જે 15 દિવસથી એક વર્ષના ગાળા માટે પુરવણી કરી શકે _____

1. કોલ મની
2. કોમર્શીયલ પેપર
3. કોમર્શીયલ બિલ
4. સર્ટીફિકેટ ઓફ ડીપોઝીટ

Options :

485584145917. 1
485584145918. 2
485584145919. 3
485584145920. 4

Sub-Section Number :

3

Sub-Section Id :

4855842695

Question Shuffling Allowed :

No

Is Section Default? :

null

Question Number : 96 Question Id : 48558436481 Question Type : MCQ Option Shuffling : No Is Question Mandatory :

No Calculator : None Response Time : N.A Think Time : N.A Minimum Instruction Time : 0

Correct Marks : 5 Wrong Marks : 1

Question Key Details :

Key	Value
Comprehension	Comp2

Safex Ltd is a company manufacturing masks. The newly appointed marketing manager of the firm has taken 'Covid Pandemic' as an opportunity to increase sales. He used a combination of tools to achieve its communication objective. He constituted 4 teams for designing these tools.

Team 1 :- The tool used by them was an impersonal form of communication which was paid for.

Team 2:- The tool used by them involves oral presentation of message in the form of conversation with one or more prospective customers for the purpose of making sales

Team 3:- This team used short-term incentives which were designed to encourage the buyers to make immediate purchase.

Team 4:- This team used a non-personal form of communication which was non-paid.

All the teams successfully designed their tools and achieved their desired results.

The variable of marketing mix discussed in the above case is _____

1. Product mix
2. Place mix
3. Price mix
4. Promotion mix

Options :

485584145921. 1
485584145922. 2
485584145923. 3
485584145924. 4

Question Number : 96 Question Id : 48558436481 Question Type : MCQ Option Shuffling : No Is Question Mandatory : No Calculator : None Response Time : N.A Think Time : N.A Minimum Instruction Time : 0

Correct Marks : 5 Wrong Marks : 1

Question Key Details :

Key	Value
Comprehension	Comp2

નીચેનો ગઘાખંડ ધ્યાનપૂર્વક વાંચો 46 થી 50

સેફેક્સ કંપની માસ્કનું ઉત્પાદન કરતી કંપની છે. તેના નવ-નિયુક્ત માર્કેટીંગ મેનેજરે કોવિડ મહામારીને વેચાણ વધારવાની તક તરીકે લીધું તેણે માહિતીસંચાર હેતુ માટેના વિવિધ સચુક્ત સાધનોનો ઉપયોગ કર્યો તેણે તે માટે ચાર જૂથ બનાવ્યા.

જૂથ-1 તેમના દ્વારા વ્યક્તિગત માહિતીસંચારના સાધનોનો ઉપયોગ કર્યો અને તે માટે તેમને વળતર મળે.

જૂથ-2 વેચાણના હેતુથી સંબંધિત સાહક સાથે વાતચીત કરે.

જૂથ-3 સાહક ત્વરિત ખરીદી કરે તે માટે ટૂંકગાળાની પ્રો-સાહક યોજનાઓનો ઉપયોગ કરે.

જૂથ-4 આ જૂથ-બિન વ્યક્તિગત માહિતી સંચાર કરે જેનો કોઈ વળતર મળતું નથી.

આ જૂથોએ સફળતા પૂર્વક સાધનોનો ઉપયોગ કરી નિર્ધારિત લક્ષ્યાંક પ્રાપ્ત કર્યું.

ઉપરોક્ત કિસ્સા અભ્યાસમાં માર્કેટીંગ મિશનના કયા ચલોની ચર્ચા કરેલ છે.

1. પેદાશ
2. વિતરણ
3. કિંમત
4. અભિવૃદ્ધિ

Options :

485584145921. 1
485584145922. 2
485584145923. 3
485584145924. 4

Question Number : 97 Question Id : 48558436482 Question Type : MCQ Option Shuffling : No Is Question Mandatory : No Calculator : None Response Time : N.A Think Time : N.A Minimum Instruction Time : 0

Correct Marks : 5 Wrong Marks : 1

Question Key Details :

Key	Value
Comprehension	Comp2

Safex Ltd is a company manufacturing masks. The newly appointed marketing manager of the firm has taken 'Covid Pandemic' as an opportunity to increase sales. He used a combination of tools to achieve its communication objective. He constituted 4 teams for designing these tools.

Team 1 :- The tool used by them was an impersonal form of communication which was paid for.

Team 2:- The tool used by them involves oral presentation of message in the form of conversation with one or more prospective customers for the purpose of making sales

Team 3:- This team used short-term incentives which were designed to encourage the buyers to make immediate purchase.

Team 4:- This team used a non-personal form of communication which was non-paid.

All the teams successfully designed their tools and achieved their desired results.

The tool used by Team 3 was _____

1. Public relations
2. Sales promotion
3. Publicity
4. Branding

Options :

485584145925. 1
485584145926. 2

485584145927. 3

485584145928. 4

Question Number : 97 Question Id : 48558436482 Question Type : MCQ Option Shuffling : No Is Question Mandatory : No Calculator : None Response Time : N.A Think Time : N.A Minimum Instruction Time : 0

Correct Marks : 5 Wrong Marks : 1

Question Key Details :

Key	Value
Comprehension	Comp2

નીચેનો ગઠાખંડ વ્યાનપૂર્વક વાંચો 46 થી 50

સેકેકસ કંપની માસ્કનું ઉત્પાદન કરતી કંપની છે. તેના નવ-નિયુક્ત માર્કેટીંગ મેનેજરે કોર્વીડ મહામારીને વેચાણ વધારવાની તક તરીકે લીધું તેજો માહિતીસંચાર હેતુ માટેના વિવિધ સચુક્ત સાધનોનો ઉપયોગ કર્યો તેજો તે માટે ધાર જૂથ બનાવ્યા.

જૂથ-1 તેમના દ્વારા વ્યક્તિગત માહિતીસંચારના સાધનોનો ઉપયોગ કર્યો અને તે માટે તેમને વળતર મળે.

જૂથ-2 વેચાણના હેતુથી સંબંધિત આહક સાથે વાતચીત કરે.

જૂથ-3 આહક ત્વરિત ખરીદી કરે તે માટે ટૂંકગાળાની પ્રો-આહક યોજનાઓનો ઉપયોગ કરે.

જૂથ-4 આ જૂથ-બિન વ્યક્તિગત માહિતી સંચાર કરે જેનો કોઈ વળતર મળતું નથી.

આ જૂથોએ સફળતા પૂર્વક સાધનોનો ઉપયોગ કરી નિર્ધારિત લક્ષ્યાંક પ્રાપ્ત કર્યું.

જૂથ-3 દ્વારા વાપરવામાં આવેલ સાધન

1. જાહેર સંપર્ક
2. વેચાણ અભિવૃદ્ધિ
3. જાહેરાત
4. પ્રાન્ડીંગ

Options :

485584145925. 1

485584145926. 2

485584145927. 3

485584145928. 4

Question Number : 98 Question Id : 48558436483 Question Type : MCQ Option Shuffling : No Is Question Mandatory : No Calculator : None Response Time : N.A Think Time : N.A Minimum Instruction Time : 0

Correct Marks : 5 Wrong Marks : 1

Question Key Details :

Key	Value
Comprehension	Comp2

Safex Ltd is a company manufacturing masks. The newly appointed marketing manager of the firm has taken 'Covid Pandemic' as an opportunity to increase sales. He used a combination of tools to achieve its communication objective. He constituted 4 teams for designing these tools.

Team 1 :- The tool used by them was an impersonal form of communication which was paid for.

Team 2:- The tool used by them involves oral presentation of message in the form of conversation with one or more prospective customers for the purpose of making sales

Team 3:- This team used short-term incentives which were designed to encourage the buyers to make immediate purchase.

Team 4:- This team used a non-personal form of communication which was non-paid.

All the teams successfully designed their tools and achieved their desired results.

The tool used by Team 4 is _____

1. Packaging
2. Advertising
3. Publicity
4. Sales promotion

Options :

485584145929. 1
485584145930. 2
485584145931. 3
485584145932. 4

Question Number : 98 Question Id : 48558436483 Question Type : MCQ Option Shuffling : No Is Question Mandatory : No Calculator : None Response Time : N.A Think Time : N.A Minimum Instruction Time : 0

Correct Marks : 5 Wrong Marks : 1

Question Key Details :

Key	Value
Comprehension	Comp2

નીચેનો ગદ્યખંડ ધ્યાનપૂર્વક વાંચો 46 થી 50

સેફેક્સ કંપની માસ્કનું ઉત્પાદન કરતી કંપની છે. તેના નવ-નિયુક્ત માર્કેટીંગ મેનેજરે કોવિડ મહામારીને વેચાણ વધારવાની તક તરીકે લીધું તેણે માહિતીસંચાર હેતુ માટેના વિવિધ સચુક્ત સાધનોનો ઉપયોગ કર્યો તેણે તે માટે ચાર જૂથ બનાવ્યા.

જૂથ-1 તેમના દ્વારા વ્યક્તિગત માહિતીસંચારના સાધનોનો ઉપયોગ કર્યો અને તે માટે તેમને વળતર મળે.

જૂથ-2 વેચાણના હેતુથી સંબંધિત ગ્રાહક સાથે વાતચીત કરે.

જૂથ-3 ગ્રાહક ત્વરિત ખરીદી કરે તે માટે ટૂંકગાળાની પ્રો-ગ્રાહક યોજનાઓનો ઉપયોગ કરે.

જૂથ-4 આ જૂથ-બિન વ્યક્તિગત માહિતી સંચાર કરે જેનો કોઈ વળતર મળતું નથી.

આ જૂથોએ સફળતા પૂર્વક સાધનોનો ઉપયોગ કરી નિર્ધારિત લક્ષ્યાંક પ્રાપ્ત કર્યું.

જૂથ-4 દ્વારા ઉપયોગમાં લેવામાં આવેલ સાધન

1. પેકેજિંગ
2. જાહેરાત
3. પ્રચાર-પ્રસાર
4. વેચાણ અભિવૃદ્ધિ

Options :

485584145929. 1
485584145930. 2
485584145931. 3
485584145932. 4

Question Number : 99 Question Id : 48558436484 Question Type : MCQ Option Shuffling : No Is Question Mandatory : No Calculator : None Response Time : N.A Think Time : N.A Minimum Instruction Time : 0

Correct Marks : 5 Wrong Marks : 1

Question Key Details :

Key	Value
Comprehension	Comp2

Safex Ltd is a company manufacturing masks. The newly appointed marketing manager of the firm has taken 'Covid Pandemic' as an opportunity to increase sales. He used a combination of tools to achieve its communication objective. He constituted 4 teams for designing these tools.

Team 1 :- The tool used by them was an impersonal form of communication which was paid for.

Team 2:- The tool used by them involves oral presentation of message in the form of conversation with one or more prospective customers for the purpose of making sales

Team 3:- This team used short-term incentives which were designed to encourage the buyers to make immediate purchase.

Team 4:- This team used a non-personal form of communication which was non-paid.

All the teams successfully designed their tools and achieved their desired results.

The tool used by Team 1 is _____

1. Advertising
2. Public relations
3. Publicity
4. Personal selling

Options :

485584145933. 1
485584145934. 2

485584145935. 3

485584145936. 4

Question Number : 99 Question Id : 48558436484 Question Type : MCQ Option Shuffling : No Is Question Mandatory : No Calculator : None Response Time : N.A Think Time : N.A Minimum Instruction Time : 0

Correct Marks : 5 Wrong Marks : 1

Question Key Details :

Key	Value
Comprehension	Comp2

નીચેનો ગઢખંડ વ્યાનપૂર્વક વાંચો 46 થી 50

સેક્ટર કંપની માસ્કનું ઉત્પાદન કરતી કંપની છે. તેના નવ-નિયુક્ત માર્કેટીંગ મેનેજરે કોર્પોરેટ મહામારીને વેચાણ વધારવાની તક તરીકે લીધુ તેજો માહિતીસંચાર હેતુ માટેના વિવિધ સચુક્ત સાધનોનો ઉપયોગ કર્યો તેજો તે માટે ધાર જૂથ બનાવ્યા.

જૂથ-1 તેમના દ્વારા વ્યક્તિગત માહિતીસંચારના સાધનોનો ઉપયોગ કર્યો અને તે માટે તેમને વળતર મળે.

જૂથ-2 વેચાણના હેતુથી સંબંધિત આલક સાથે વાતચીત કરે.

જૂથ-3 આલક ત્વરીત ખરીદી કરે તે માટે ટૂંકગાળાની પ્રો-આલક યોજનાઓનો ઉપયોગ કરે.

જૂથ-4 આ જૂથ-બિન વ્યક્તિગત માહિતી સંચાર કરે જેનો કોઈ વળતર મળતું નથી.

આ જૂથોએ સફળતા પૂર્વક સાધનોનો ઉપયોગ કરી નિર્ધારિત લક્ષ્યાંક પ્રાપ્ત કર્યું.

જૂથ-1 દ્વારા ઉપયોગમાં લીધેલ સાધન

1. જાહેરાત
2. સંપર્ક સૂત્ર
3. પ્રચાર-પ્રસાર
4. વ્યક્તિગત વેચાણ

Options :

485584145933. 1

485584145934. 2

485584145935. 3

485584145936. 4

Question Number : 100 Question Id : 48558436485 Question Type : MCQ Option Shuffling : No Is Question Mandatory : No Calculator : None Response Time : N.A Think Time : N.A Minimum Instruction Time : 0

Correct Marks : 5 Wrong Marks : 1

Question Key Details :

Key	Value
Comprehension	Comp2

Safex Ltd is a company manufacturing masks. The newly appointed marketing manager of the firm has taken 'Covid Pandemic' as an opportunity to increase sales. He used a combination of tools to achieve its communication objective. He constituted 4 teams for designing these tools.

Team 1 :- The tool used by them was an impersonal form of communication which was paid for.

Team 2:- The tool used by them involves oral presentation of message in the form of conversation with one or more prospective customers for the purpose of making sales

Team 3:- This team used short-term incentives which were designed to encourage the buyers to make immediate purchase.

Team 4:- This team used a non-personal form of communication which was non-paid.

All the teams successfully designed their tools and achieved their desired results.

The tool used by Team 2 is _____

1. Public relations
2. Personal selling
3. Advertising
4. Publicity

Options :

485584145937. 1
485584145938. 2
485584145939. 3
485584145940. 4

Question Number : 100 Question Id : 48558436485 Question Type : MCQ Option Shuffling : No Is Question Mandatory : No Calculator : None Response Time : N.A Think Time : N.A Minimum Instruction Time : 0

Correct Marks : 5 Wrong Marks : 1

Question Key Details :

Key	Value
Comprehension	Comp2

नीचेनी अधर्भंड ध्यानपूर्वक पांयो 46 वी 50

सुरेकस कंपनी मास्कनु उत्पादन करती कंपनी छे. तेना नव-नियुक्त मार्केटींग मेनेजर छे कीवड महामारीने वेयाज बधारवानी तक तरीडे बीपु तेजे माकितीसंघार हेतु माटेना विविध संयुक्त साधनोनी उपयोग कर्यो तेजे ते माटे धार जूथ बनाव्या.

जूथ-1 तेमना द्वारा व्यक्तिगत माकितीसंघारना साधनोनी उपयोग कर्यो अने ते माटे तेमने वजतर मजे.

जूथ-2 वेयाजना हेतुशी संभवित आडक साथे वातथीत करे.

जूथ-3 आडक त्वरीत खरीदी करे ते माटे टूंकवाजानी प्रो-आडक योजनाओनी उपयोग करे.

जूथ-4 आ जूथ-बिन व्यक्तिगत माकिती संघार करे जेनी कोठ वजतर मजतु नथी.

आ जूथोअे सङ्गता पूर्वक साधनोनी उपयोग करी निर्धारित बड्यांक प्राप्त कर्युं.

જૂથ-2 દ્વારા ઉપયોગમાં લેવાયેલ સાધન

1. સંપર્ક સૂત્ર
2. વ્યક્તિગત વેચાણ
3. જાહેરાત
4. પ્રચાર-પ્રસાર

Options :

485584145937. 1
485584145938. 2
485584145939. 3
485584145940. 4

History

Group Number :	4
Group Id :	485584824
Group Maximum Duration :	45
Group Minimum Duration :	45
Show Attended Group? :	No
Edit Attended Group? :	No
Break time :	0
Group Marks :	200
Is this Group for Examiner? :	No
Examiner permission :	Cant View
Show Progress Bar? :	No

History

Section Id :	485584948
Section Number :	1
Section type :	Online
Mandatory or Optional :	Mandatory
Number of Questions :	50
Number of Questions to be attempted :	40
Section Marks :	200
Enable Mark as Answered Mark for Review and Clear Response :	Yes
Maximum Instruction Time :	0
Sub-Section Number :	1
Sub-Section Id :	4855842696
Question Shuffling Allowed :	Yes
Is Section Default? :	null

Question Number : 101 Question Id : 48558436486 Question Type : MCQ Option Shuffling : No Is Question Mandatory : No Calculator : None Response Time : N.A Think Time : N.A Minimum Instruction Time : 0

Correct Marks : 5 Wrong Marks : 1

Question Key Details :

Key	Value
-----	-------

Who made the following statement: "Marshall left India three thousand years older than he had found her."

1. Daya Ram Sahni
2. Rakhai Das Banerji
3. R.E. M. Wheeler
4. S.N. Roy

Options :

485584145941. 1
485584145942. 2
485584145943. 3
485584145944. 4

Question Number : 101 Question Id : 48558436486 Question Type : MCQ Option Shuffling : No Is Question Mandatory : No Calculator : None Response Time : N.A Think Time : N.A Minimum Instruction Time : 0

Correct Marks : 5 Wrong Marks : 1

Question Key Details :

Key	Value
Comprehension	MCQ

કોણે આ વિધાન વખતે છે માશવે ભારતને શોધી કાઢ્યુ હતું તેના કરતા ત્રણ હજાર જુનુ તેણીને છોડી ગયો.

1. દયારામ સાહની
2. રખાવદાસ બેનરજી
3. આર.ઈ.એમ.વ્હીલર
4. એસ.એન.રોય

Options :

485584145941. 1
485584145942. 2
485584145943. 3
485584145944. 4

Question Number : 102 Question Id : 48558436487 Question Type : MCQ Option Shuffling : No Is Question Mandatory : No Calculator : None Response Time : N.A Think Time : N.A Minimum Instruction Time : 0

Correct Marks : 5 Wrong Marks : 1

Question Key Details :

Key	Value
Comprehension	MCQ

Archaeological study of a mound can provide cultural sequence for a site. Study of such layers is called

1. Ethnography
2. Stratigraphy
3. Epigraphy
4. Sociography

Options :

485584145945. 1
485584145946. 2
485584145947. 3
485584145948. 4

Question Number : 102 Question Id : 48558436487 Question Type : MCQ Option Shuffling : No Is Question Mandatory : No Calculator : None Response Time : N.A Think Time : N.A Minimum Instruction Time : 0

Correct Marks : 5 Wrong Marks : 1

Question Key Details :

Key	Value
Comprehension	MCQ

ટેકરાનો પુરાતત્વીય અભ્યાસ પુરાસ્થળ માટે સાંસ્કૃતિક ક્રમ આપી શકે છે. આવા સ્તરોના અભ્યાસને _____ કહેવામાં આવે છે.

1. ઇથનોગ્રાફી
2. સ્ટ્રેટીગ્રાફી (સ્તરશાસ્ત્ર)
3. એપીગ્રાફી (અભિવેખશાસ્ત્ર)
4. સોશીયોગ્રાફી (સમાજશાસ્ત્ર)

Options :

485584145945. 1
485584145946. 2
485584145947. 3
485584145948. 4

Question Number : 103 Question Id : 48558436488 Question Type : MCQ Option Shuffling : No Is Question Mandatory : No Calculator : None Response Time : N.A Think Time : N.A Minimum Instruction Time : 0

Correct Marks : 5 Wrong Marks : 1

Question Key Details :

Key	Value
Comprehension	MCQ

Which of the following Harappan sites were located near the coast?

1. Banawali and Rakhigarhi
2. Nageshwar and Balakot
3. Ganweriwala and Mitathal
4. Kot-Diji and Kalibangan

Options :

485584145949. 1
485584145950. 2
485584145951. 3
485584145952. 4

Question Number : 103 Question Id : 48558436488 Question Type : MCQ Option Shuffling : No Is Question Mandatory : No Calculator : None Response Time : N.A Think Time : N.A Minimum Instruction Time : 0

Correct Marks : 5 Wrong Marks : 1

Question Key Details :

Key	Value
Comprehension	MCQ

નીચેનામાંથી કયું હડપ્પીયન પુરાસ્થળ દરિયાકિનારાની નજીક છે.

1. બનાવલી અને રાખીગઢી
2. નાગેશ્વર અને વાલાકોટ
3. ગંવેરીવાલ અને મીતાથલ
4. કોટ-દીજી અને કાલીબંગાન

Options :

485584145949. 1
485584145950. 2
485584145951. 3
485584145952. 4

Question Number : 104 Question Id : 48558436489 Question Type : MCQ Option Shuffling : No Is Question Mandatory : No Calculator : None Response Time : N.A Think Time : N.A Minimum Instruction Time : 0

Correct Marks : 5 Wrong Marks : 1

Question Key Details :

Key	Value
Comprehension	MCQ

Who among the following is often held as the 'Father of Indian Archaeology'?

1. John Marshall
2. Alexander Cunningham
3. James Prinsep
4. R.E.M. Wheeler

Options :

485584145953. 1
485584145954. 2
485584145955. 3
485584145956. 4

Question Number : 104 Question Id : 48558436489 Question Type : MCQ Option Shuffling : No Is Question Mandatory : No Calculator : None Response Time : N.A Think Time : N.A Minimum Instruction Time : 0

Correct Marks : 5 Wrong Marks : 1

Question Key Details :

Key	Value
Comprehension	MCQ

નીચેનામાંથી કોણે ભારતીય પુરાતત્વના પિતા તરીકે ગણવામાં આવે છે ?

1. જહોન માર્શલ
2. એલેક્ઝાન્ડર કનીંગહામ
3. જેમ્સ પ્રીન્સેપ
4. આર.ઈ.એમ. વ્હીલર

Options :

485584145953. 1
485584145954. 2
485584145955. 3
485584145956. 4

Question Number : 105 Question Id : 48558436490 Question Type : MCQ Option Shuffling : No Is Question Mandatory : No Calculator : None Response Time : N.A Think Time : N.A Minimum Instruction Time : 0

Correct Marks : 5 Wrong Marks : 1

Question Key Details :

Key	Value
Comprehension	MCQ

Traces of canals have been found at the Harappan site of Shortughai, which is located in _____.

1. Punjab
2. Sind
3. Afghanistan
4. Gujarat

Options :

485584145957. 1
485584145958. 2
485584145959. 3
485584145960. 4

Question Number : 105 Question Id : 48558436490 Question Type : MCQ Option Shuffling : No Is Question Mandatory : No Calculator : None Response Time : N.A Think Time : N.A Minimum Instruction Time : 0

Correct Marks : 5 Wrong Marks : 1

Question Key Details :

Key	Value
Comprehension	MCQ

હડપ્પીયન પુરાસ્થળ શોર્તુઘાઈ ખાતે નહેરોના નિશાન મળી આવ્યા છે જે _____ ખાતે સ્થિત છે.

1. પંજાબ
2. સીંધ
3. અફઘાનિસ્તાન
4. ગુજરાત

Options :

485584145957. 1
485584145958. 2
485584145959. 3
485584145960. 4

Question Number : 106 Question Id : 48558436491 Question Type : MCQ Option Shuffling : No Is Question Mandatory : No Calculator : None Response Time : N.A Think Time : N.A Minimum Instruction Time : 0

Correct Marks : 5 Wrong Marks : 1

Question Key Details :

Key	Value
Comprehension	MCQ

In ancient India, the first coins to bear the names and images of the rulers were issued by the _____.

1. Indo-Greeks
2. Kushans
3. Parthians
4. Shakas

Options :

485584145961. 1
485584145962. 2
485584145963. 3
485584145964. 4

Question Number : 106 Question Id : 48558436491 Question Type : MCQ Option Shuffling : No Is Question Mandatory : No Calculator : None Response Time : N.A Think Time : N.A Minimum Instruction Time : 0

Correct Marks : 5 Wrong Marks : 1

Question Key Details :

Key	Value
Comprehension	MCQ

પ્રાચીન ભારતમાં શાસકોના નામ અને છબી ધરાવતો પ્રથમ સિક્કો _____ દ્વારા બહાર પાડવામાં આવ્યો હતો.

1. ઈન્ડો-ગ્રીક
2. કુષાણો
3. પાર્થિયનો
4. શકો

Options :

485584145961. 1
485584145962. 2
485584145963. 3
485584145964. 4

Question Number : 107 Question Id : 48558436492 Question Type : MCQ Option Shuffling : No Is Question Mandatory : No Calculator : None Response Time : N.A Think Time : N.A Minimum Instruction Time : 0

Correct Marks : 5 Wrong Marks : 1

Question Key Details :

Key	Value
Comprehension	MCQ

Which place are you visiting if you come across the lion capital built by Asoka?

1. Varanasi
2. Delhi
3. Sarnath
4. Ujjayini

Options :

485584145965. 1
485584145966. 2
485584145967. 3
485584145968. 4

Question Number : 107 Question Id : 48558436492 Question Type : MCQ Option Shuffling : No Is Question Mandatory : No Calculator : None Response Time : N.A Think Time : N.A Minimum Instruction Time : 0

Correct Marks : 5 Wrong Marks : 1

Question Key Details :

Key	Value
Comprehension	MCQ

જો તમે અશોક દ્વારા બાંધવામાં આવેલ સિંહની રાજધાની તરફ આવો છો તો તમે કયા સ્થળની મુલાકાત લો છે ?

1. વારાણસી
2. દિલ્હી
3. સારનાથ
4. ઉજ્જયીની

Options :

485584145965. 1
485584145966. 2
485584145967. 3
485584145968. 4

Question Number : 108 Question Id : 48558436493 Question Type : MCQ Option Shuffling : No Is Question Mandatory : No Calculator : None Response Time : N.A Think Time : N.A Minimum Instruction Time : 0

Correct Marks : 5 Wrong Marks : 1

Question Key Details :

Key	Value
Comprehension	MCQ

Prabhavati Gupta was the daughter of _____.

1. Chandragupta II
2. Samudragupta
3. Chandragupta Maurya
4. Skandgupta

Options :

485584145969. 1
485584145970. 2
485584145971. 3
485584145972. 4

Question Number : 108 Question Id : 48558436493 Question Type : MCQ Option Shuffling : No Is Question Mandatory : No Calculator : None Response Time : N.A Think Time : N.A Minimum Instruction Time : 0

Correct Marks : 5 Wrong Marks : 1

Question Key Details :

Key	Value
Comprehension	MCQ

प्रभावती गुप्त _____ ना पुत्री छती.

1. चंद्रगुप्त II
2. समुद्रगुप्त
3. चंद्रगुप्त मौर्य
4. स्कंदगुप्त

Options :

485584145969. 1
485584145970. 2
485584145971. 3
485584145972. 4

Question Number : 109 Question Id : 48558436494 Question Type : MCQ Option Shuffling : No Is Question Mandatory : No Calculator : None Response Time : N.A Think Time : N.A Minimum Instruction Time : 0

Correct Marks : 5 Wrong Marks : 1

Question Key Details :

Key	Value
Comprehension	MCQ

Which of the following statements are **correct**?

- A. The Dharmasutras and Dharmashastras recognised as many as twelve forms of marriages.
- B. People were classified into gotras and each gotra was named after a Vedic seer.
- C. Jatis, which shared a common occupation, were sometimes organised into shrenis or guilds.
- D. Women were allowed to retain the gifts they received on their marriage as 'Stridhana' to be inherited by their children.
- E. Matriliney is the term used when descent is traced through the mother.

Choose the **correct** answer from the options given below:

- 1. A, B, C, E only
- 2. A, C, D, E only
- 3. B, C, D, E only
- 4. A, B, D, E only

Options :

- 485584145973. 1
- 485584145974. 2
- 485584145975. 3
- 485584145976. 4

Question Number : 109 Question Id : 48558436494 Question Type : MCQ Option Shuffling : No Is Question Mandatory : No Calculator : None Response Time : N.A Think Time : N.A Minimum Instruction Time : 0

Correct Marks : 5 Wrong Marks : 1

Question Key Details :

Key	Value
Comprehension	MCQ

નીચે આપેલા વિધાનોમાંથી કયા સાચા છે.

- A. ધર્મસુત્રો અને ધર્મશાસ્ત્રોએ લગ્નોના બાર જેટલા સ્વરૂપોને માન્ય આપી હતી.
- B. લોકોને ગોત્રીમાં વર્ગીકૃત કરવામાં આવ્યા હતાં. અને દરેક ગોત્રનું નામ વૈદિક દૃષ્ટા ઉપરથી રાખવામાં આવ્યું હતું.
- C. જાતિઓ, જેઓ એક સરખો વ્યવસાય કરતા હતા તેમને કેટલીક ક્વાર શ્રેણીઓ અથવા ગીલ્ડમાં ગોઠવવામાં આવતા હતાં
- D. સ્ત્રીઓને તેમનાં લગ્નમાં સ્ત્રીધન તરીકે મળેલી ભેટ તેઓ રાખી શકે છે જે તેમના બાળકોને વારસામાં મળે છે.
- E. જ્યારે વંશ ને માતા દ્વારા શોધી કાઢવામાં આવે છે ત્યારે માતૃવંશીય શબ્દનો ઉપયોગ થાય છે.

નીચે આપેલા વિકલ્પોમાંથી સાચો જવાબ પસંદ કરો.

- 1. ફક્ત A, B, C, E
- 2. ફક્ત A, C, D, E
- 3. ફક્ત B, C, D, E
- 4. ફક્ત A, B, D, E

Options :

- 485584145973. 1

485584145974. 2
485584145975. 3
485584145976. 4

**Question Number : 110 Question Id : 48558436495 Question Type : MCQ Option Shuffling : No Is Question Mandatory :
No Calculator : None Response Time : N.A Think Time : N.A Minimum Instruction Time : 0**

Correct Marks : 5 Wrong Marks : 1

Question Key Details :

Key	Value
Comprehension	MCQ

What did Ibn Battuta observe when he visited the city of Delhi?

- A. Its beautiful temple architecture in every part of the city.
- B. Its fine cemetery with domes and arches.
- C. Its imposing stupa in the heart of the city.
- D. Its twenty-eight big darwazas.
- E. Its many waterfalls within the city.

Choose the correct answer from the options given below:

- 1. A, B only
- 2. C, D only
- 3. B, D only
- 4. D, E only

Options :

485584145977. 1
485584145978. 2
485584145979. 3
485584145980. 4

**Question Number : 110 Question Id : 48558436495 Question Type : MCQ Option Shuffling : No Is Question Mandatory :
No Calculator : None Response Time : N.A Think Time : N.A Minimum Instruction Time : 0**

Correct Marks : 5 Wrong Marks : 1

Question Key Details :

Key	Value
Comprehension	MCQ

ઈબ્નબતુતાએ જ્યારે દિલ્હીની મુલાકાત લીધી હતી ત્યારે તેનું નિરીક્ષણ કર્યું હતું ?

- A. શહેરના દરેક ભાગમાં સુંદર મંદિર સ્થાપત્ય હતું.
- B. તેને ગુંબજ અને કમાનો સાથેનું સુંદર કબ્રસ્તાન હતું.
- C. શહેરની મધ્યમાં આકર્ષક સ્તુપ હતી.
- D. તેને અઠ્યાવીસ મોટા દરવાજા હતા.
- E. શહેરની અંદર અનેક ધોમ હતા.

નીચે આપેલા વિકલ્પોમાંથી સાચો જવાબ પસંદ કરો.

- 1. માત્ર A અને B
- 2. માત્ર C અને D
- 3. માત્ર B અને D
- 4. માત્ર D અને E

Options :

- 485584145977. 1
- 485584145978. 2
- 485584145979. 3
- 485584145980. 4

Question Number : 111 Question Id : 48558436496 Question Type : MCQ Option Shuffling : No Is Question Mandatory : No Calculator : None Response Time : N.A Think Time : N.A Minimum Instruction Time : 0

Correct Marks : 5 Wrong Marks : 1

Question Key Details :

Key	Value
Comprehension	MCQ

Match List I with List II:

LIST I (Traders)		LIST II (Countries)	
A.	Nicolo de Conti	I.	England
B.	Duarte Barbosa	II.	Italy
C.	Peter Mundy	III.	Russia
D.	Afanasii Nikitin	IV.	Portugal

Choose the correct answer from the options given below:

- 1. A-II, B-I, C-III, D-IV
- 2. A-II, B-III, C-IV, D-I
- 3. A-IV, B-III, C-II, D-I
- 4. A-II, B-IV, C-I, D-III

Options :

- 485584145981. 1
- 485584145982. 2

485584145983. 3

485584145984. 4

Question Number : 111 Question Id : 48558436496 Question Type : MCQ Option Shuffling : No Is Question Mandatory : No Calculator : None Response Time : N.A Think Time : N.A Minimum Instruction Time : 0

Correct Marks : 5 Wrong Marks : 1

Question Key Details :

Key	Value
Comprehension	MCQ

સૂચિ I ને સૂચિ II સાથે જોડો.

સૂચિ I		સૂચિ II	
A.	નીકોલો દ કોન્ટો	I.	ઇન્ડોનેસિયા
B.	દુઆર્ટે બ્યારબોસા	II.	ઇટાલી
C.	પોટર મૂડી	III.	રશિયા
D.	અફાનાસી નીકીતીન	IV.	પોર્ટુગલ

નીચે આપેલા વિકલ્પોમાંથી સાચો જવાબ પસંદ કરો.

1. A-II, B-I, C-III, D-IV

2. A-II, B-III, C-IV, D-I

3. A-IV, B-III, C-II, D-I

4. A-II, B-IV, C-I, D-III

Options :

485584145981. 1

485584145982. 2

485584145983. 3

485584145984. 4

Question Number : 112 Question Id : 48558436497 Question Type : MCQ Option Shuffling : No Is Question Mandatory : No Calculator : None Response Time : N.A Think Time : N.A Minimum Instruction Time : 0

Correct Marks : 5 Wrong Marks : 1

Question Key Details :

Key	Value
Comprehension	MCQ

Match List I with List II:

LIST I		LIST II	
A.	Alvars	I.	Bijak
B.	Virashaiva	II.	Tevaram
C.	Nayanars	III.	Nalayira Divyaprabandham
D.	Kabir	IV.	Nachanas

Choose the correct answer from the options given below:

1. A-I, B-IV, C-III, D-II
2. A-III, B-IV, C-II, D-I
3. A-II, B-I, C-III, D-IV
4. A-IV, B-III, C-I, D-II

Options :

485584145985. 1
485584145986. 2
485584145987. 3
485584145988. 4

Question Number : 112 Question Id : 48558436497 Question Type : MCQ Option Shuffling : No Is Question Mandatory : No Calculator : None Response Time : N.A Think Time : N.A Minimum Instruction Time : 0

Correct Marks : 5 Wrong Marks : 1

Question Key Details :

Key	Value
Comprehension	MCQ

સૂચિ I ને સૂચિ II સાથે જોડો.

સૂચિ I		સૂચિ II	
A.	અવવાર	I.	બીજક
B.	વોરશૈવ	II.	તેવરામ
C.	નયનારો	III.	નલયીરા દીવ્ય પ્રબંધમ્
D.	કબીર	IV.	વચનો

નીચે આપેલા વિકલ્પોમાંથી સાચો જવાબ પસંદ કરો.

1. A-I, B-IV, C-III, D-II
2. A-III, B-IV, C-II, D-I
3. A-II, B-I, C-III, D-IV
4. A-IV, B-III, C-I, D-II

Options :

485584145985. 1
485584145986. 2
485584145987. 3

Question Number : 113 Question Id : 48558436498 Question Type : MCQ Option Shuffling : No Is Question Mandatory : No Calculator : None Response Time : N.A Think Time : N.A Minimum Instruction Time : 0

Correct Marks : 5 Wrong Marks : 1

Question Key Details :

Key	Value
Comprehension	MCQ

Match List I with List II:

LIST I (Sufi Teachers)		LIST II (Year of Death)	
A.	Muhammad Sijzi	I.	1265
B.	Fariduddin Ganj-i-Shakar	II.	1235
C.	Nizamuddin Auliya	III.	1356
D.	Nasiruddin Chirag	IV.	1325

Choose the correct answer from the options given below:

1. A-II, B-III, C-I, D-IV
2. A-I, B-II, C-III, D-IV
3. A-II, B-I, C-IV, D-III
4. A-IV, B-III, C-I, D-II

Options :

485584145989. 1
485584145990. 2
485584145991. 3
485584145992. 4

Question Number : 113 Question Id : 48558436498 Question Type : MCQ Option Shuffling : No Is Question Mandatory : No Calculator : None Response Time : N.A Think Time : N.A Minimum Instruction Time : 0

Correct Marks : 5 Wrong Marks : 1

Question Key Details :

Key	Value
Comprehension	MCQ

સૂચિ I ને સૂચિ II સાથે જોડો.

સૂચિ I (સૂકી ઉપદેશકો)		સૂચિ II (મૃત્યુ વર્ષ)	
A.	મુઈદ્દીન સૌજી	I.	1265
B.	ફરોઈદ્દીન ગંજ-ઈ-શકાર	II.	1235
C.	નીઝામુદ્દીન સોલિયા	III.	1356
D.	નસીરુદ્દીન ચૌરાગ	IV.	1325

નીચે આપેલા વિકલ્પોમાંથી સાચો જવાબ પસંદ કરો.

1. A-II, B-III, C-I, D-IV

2. A-I, B-II, C-III, D-IV

3. A-II, B-I, C-IV, D-III

4. A-IV, B-III, C-I, D-II

Options :

485584145989. 1

485584145990. 2

485584145991. 3

485584145992. 4

Question Number : 114 Question Id : 48558436499 Question Type : MCQ Option Shuffling : No Is Question Mandatory : No Calculator : None Response Time : N.A Think Time : N.A Minimum Instruction Time : 0

Correct Marks : 5 Wrong Marks : 1

Question Key Details :

Key	Value
Comprehension	MCQ

Choose the **incorrect** statement out of the following:

1. Guru Nanak rejected the sacrifices and rituals of both Hindus and Muslims.

2. Guru Nanak did not wish to establish his own new religion.

3. Guru Nanak advocated the form of Nirguna Bhakti.

4. Guru Nanak appointed one his disciple 'Angad' to succeed him as the preceptor.

Options :

485584145993. 1

485584145994. 2

485584145995. 3

485584145996. 4

Question Number : 114 Question Id : 48558436499 Question Type : MCQ Option Shuffling : No Is Question Mandatory : No Calculator : None Response Time : N.A Think Time : N.A Minimum Instruction Time : 0

Correct Marks : 5 Wrong Marks : 1

Question Key Details :

Key	Value
-----	-------

નીચે આપેલા વિધાનોમાંથી ખોટું વિધાન પસંદ કરો.

1. ગુરુ નાનકે હિંદુ મુસ્લિમ બંનેની વ્યવિધાનની અને વિધિવિધાનોને નકારી કાઢી હતી.
2. ગુરુ નાનક પોતાનો આગવો નવો ધર્મ સ્થાપવાની ઈચ્છા ધરાવતા ન હતી.
3. ગુરુ નાનકે નિર્ગુણ ભક્તિના સ્વરૂપની હિમાયત કરી હતી.
4. ગુરુ નાનકે તેમના અનુગામી તરીકે તેમના એક શિષ્ય યંગદની નિમણૂક કરી હતી.

Options :

485584145993. 1
485584145994. 2
485584145995. 3
485584145996. 4

Question Number : 115 Question Id : 48558436500 Question Type : MCQ Option Shuffling : No Is Question Mandatory : No Calculator : None Response Time : N.A Think Time : N.A Minimum Instruction Time : 0

Correct Marks : 5 Wrong Marks : 1

Question Key Details :

Key	Value
Comprehension	MCQ

Chronologically arrange the landmark events in the discovery of Vijayanagara.

- A. Conservation under John Marshall.
- B. Documentation of temple inscriptions by J.F. Fleet.
- C. Survey of Vijayanagara by Colin Mackenzie.
- D. Status of world heritage site by UNESCO.
- E. Photography of the archaeological site under Alexander Greenlaw.

Choose the correct answer from the options given below:

1. C, E, B, A, D
2. B, D, A, E, C
3. C, D, A, B, E
4. E, A, C, D, B

Options :

485584145997. 1
485584145998. 2
485584145999. 3
485584146000. 4

Question Number : 115 Question Id : 48558436500 Question Type : MCQ Option Shuffling : No Is Question Mandatory : No Calculator : None Response Time : N.A Think Time : N.A Minimum Instruction Time : 0

Correct Marks : 5 Wrong Marks : 1

Question Key Details :

Key	Value

વિજયનગરની શોધ સંબંધિત ડોનોલોજીકલી ગોઠવો

- જહોન માર્શવિના નેતૃત્વ તળે સંરક્ષણ
- જે.એફ.ફર્વીટના નેતૃત્વ તળે મંદિર સ્થાપત્યનું દસ્તાવેજીકરણ
- કોલીન મેર્કેન્ઝી દ્વારા વિજયનગરનો સર્વે
- UNESCO દ્વારા વિશ્વ ધરોહર સ્થળની ઠરજજો
- એલેક્ઝાન્ડર ગ્રીન લોના નેતૃત્વમાં પુરાતત્વીય સ્થળની ફોટોગ્રાફી

નીચે આપેલા વિકલ્પોમાંથી સાચો જવાબ પસંદ કરો.

- C, E, B, A, D
- B, D, A, E, C
- C, D, A, B, E
- E, A, C, D, B

Options :

485584145997. 1
485584145998. 2
485584145999. 3
485584146000. 4

Question Number : 116 Question Id : 48558436501 Question Type : MCQ Option Shuffling : No Is Question Mandatory : No Calculator : None Response Time : N.A Think Time : N.A Minimum Instruction Time : 0

Correct Marks : 5 Wrong Marks : 1

Question Key Details :

Key	Value
Comprehension	MCQ

Arrange the following dynasties in a chronological order.

- Tuluva dynasty
- Saluva dynasty
- Aravidu dynasty
- Sangama dynasty

Choose the **correct** answer from the options given below:

- A, B, C, D
- A, B, D, C
- C, D, A, B
- D, B, A, C

Options :

485584146001. 1
485584146002. 2
485584146003. 3

485584146004. 4

Question Number : 116 Question Id : 48558436501 Question Type : MCQ Option Shuffling : No Is Question Mandatory : No Calculator : None Response Time : N.A Think Time : N.A Minimum Instruction Time : 0

Correct Marks : 5 Wrong Marks : 1

Question Key Details :

Key	Value
Comprehension	MCQ

નીચે આપેલા રાજવંશોને ક્રોનોલોજીકલ ક્રમમાં ગોઠવો

- A. તાલુવ વંશ
- B. સાલવ વંશ
- C. અરવિંદુ વંશ
- D. સંગમ વંશ

નીચે આપેલા વિકલ્પોમાંથી સાચો જવાબ પસંદ કરો.

- 1. A, B, C, D
- 2. A, B, D, C
- 3. C, D, A, B
- 4. D, B, A, C

Options :

- 485584146001. 1
- 485584146002. 2
- 485584146003. 3
- 485584146004. 4

Question Number : 117 Question Id : 48558436502 Question Type : MCQ Option Shuffling : No Is Question Mandatory : No Calculator : None Response Time : N.A Think Time : N.A Minimum Instruction Time : 0

Correct Marks : 5 Wrong Marks : 1

Question Key Details :

Key	Value
Comprehension	MCQ

What is a 'Gopuram' in the context of Vijayanagara Empire?

- 1. Mandapa
- 2. Platform
- 3. Shrine
- 4. Gateway

Options :

- 485584146005. 1
- 485584146006. 2
- 485584146007. 3

485584146008. 4

Question Number : 117 Question Id : 48558436502 Question Type : MCQ Option Shuffling : No Is Question Mandatory : No Calculator : None Response Time : N.A Think Time : N.A Minimum Instruction Time : 0

Correct Marks : 5 Wrong Marks : 1

Question Key Details :

Key	Value
Comprehension	MCQ

વિજયનગર સામ્રાજ્યના સંદર્ભમાં ગોપુરમ શું છે ?

1. મંડપ
2. ખેટફોર્મ
3. મંદિર
4. પ્રવેશદ્વાર

Options :

485584146005. 1
485584146006. 2
485584146007. 3
485584146008. 4

Question Number : 118 Question Id : 48558436503 Question Type : MCQ Option Shuffling : No Is Question Mandatory : No Calculator : None Response Time : N.A Think Time : N.A Minimum Instruction Time : 0

Correct Marks : 5 Wrong Marks : 1

Question Key Details :

Key	Value
Comprehension	MCQ

Vijayanagara kings claimed to rule on behalf of the God _____.

1. Pampadevi
2. Virupaksha
3. Vitthala
4. Rama

Options :

485584146009. 1
485584146010. 2
485584146011. 3
485584146012. 4

Question Number : 118 Question Id : 48558436503 Question Type : MCQ Option Shuffling : No Is Question Mandatory : No Calculator : None Response Time : N.A Think Time : N.A Minimum Instruction Time : 0

Correct Marks : 5 Wrong Marks : 1

Question Key Details :

Key	Value
-----	-------

વિજયનગરના રાજાઓ _____ ભગવાન વતી શાસન કરવાનો દાવો કરતાં હતાં.

1. પંપાદેવી
2. વીરપક્ષ
3. વિક્કલ
4. રામ

Options :

485584146009. 1
485584146010. 2
485584146011. 3
485584146012. 4

Question Number : 119 Question Id : 48558436504 Question Type : MCQ Option Shuffling : No Is Question Mandatory : No Calculator : None Response Time : N.A Think Time : N.A Minimum Instruction Time : 0

Correct Marks : 5 Wrong Marks : 1

Question Key Details :

Key	Value
Comprehension	MCQ

The Vijayanagara Empire was known to its contemporaries as _____.

1. Maharashtra Samrajyamu
2. Andhra Samrajyamu
3. Tamil Samrajyamu
4. Karnataka Samrajyamu

Options :

485584146013. 1
485584146014. 2
485584146015. 3
485584146016. 4

Question Number : 119 Question Id : 48558436504 Question Type : MCQ Option Shuffling : No Is Question Mandatory : No Calculator : None Response Time : N.A Think Time : N.A Minimum Instruction Time : 0

Correct Marks : 5 Wrong Marks : 1

Question Key Details :

Key	Value
Comprehension	MCQ

વિજયનગર સામ્રાજ્ય તેના સમકાલીનોમાં _____ તરીકે જાણીતું હતું.

1. મહારાષ્ટ્ર સામ્રાજ્યમ્
2. આંધ્ર સામ્રાજ્યમ્
3. તમીલ સામ્રાજ્યમ્
4. કર્ણાટક સામ્રાજ્યમ્

Options :

485584146013. 1
485584146014. 2
485584146015. 3
485584146016. 4

Question Number : 120 Question Id : 48558436505 Question Type : MCQ Option Shuffling : No Is Question Mandatory : No Calculator : None Response Time : N.A Think Time : N.A Minimum Instruction Time : 0

Correct Marks : 5 Wrong Marks : 1

Question Key Details :

Key	Value
Comprehension	MCQ

In the 17th century, Indo-Persian sources, the term for non-resident cultivators, who belonged to some other village but cultivated land elsewhere on contractual basis, were known as _____.

1. Khud-Kashta
2. Pahi-Kashta
3. Muqaddam
4. Muzarian

Options :

485584146017. 1
485584146018. 2
485584146019. 3
485584146020. 4

Question Number : 120 Question Id : 48558436505 Question Type : MCQ Option Shuffling : No Is Question Mandatory : No Calculator : None Response Time : N.A Think Time : N.A Minimum Instruction Time : 0

Correct Marks : 5 Wrong Marks : 1

Question Key Details :

Key	Value
Comprehension	MCQ

17મી સદીના પર્શીયન સ્ત્રોતોમાં જેઓ બીજા ગામના હતા પરંતુ અન્યત્ર કરાર આધારિત જમીન પર ખેતી કરતા હતા તેવા બિન નિવાસી ખેતી કરનારાઓ માટે _____ શબ્દ વપરાયો છે.

1. ખુદ-કસ્ત
2. પહી-કસ્ત
3. મુકાદમ
4. મુઝારીઅન

Options :

485584146017. 1
485584146018. 2
485584146019. 3
485584146020. 4

Question Number : 121 Question Id : 48558436506 Question Type : MCQ Option Shuffling : No Is Question Mandatory : No Calculator : None Response Time : N.A Think Time : N.A Minimum Instruction Time : 0

Correct Marks : 5 Wrong Marks : 1

Question Key Details :

Key	Value
Comprehension	MCQ

Identify the **correct** sequence of the chronicles written during the Mughal period.

- A. Akbar Nama
- B. Alangir Nama
- C. Char Chaman
- D. Jahangir Nama
- E. Humayun Nama

Choose the **correct** answer from the options given below:

1. A, C, B, D, E
2. A, D, B, C, E
3. E, A, B, D, C
4. E, A, D, C, B

Options :

485584146021. 1
485584146022. 2
485584146023. 3
485584146024. 4

Question Number : 121 Question Id : 48558436506 Question Type : MCQ Option Shuffling : No Is Question Mandatory : No Calculator : None Response Time : N.A Think Time : N.A Minimum Instruction Time : 0

Correct Marks : 5 Wrong Marks : 1

Question Key Details :

Key	Value
-----	-------

મુઘલકાલ દરમિયાન લખાયેલ ઇતિહાસ ને સાચી શ્રેણીમાં ગોઠવો.

- A. અકબરનામા
- B. આલમગીરનામા
- C. ચાર ચમન
- D. જહોગીરનામા
- E. હુમાયુનામા

નીચે આપેલા વિકલ્પોમાંથી સાચો જવાબ પસંદ કરો.

1. A, C, B, D, E
2. A, D, B, C, E
3. E, A, B, D, C
4. E, A, D, C, B

Options :

485584146021. 1
485584146022. 2
485584146023. 3
485584146024. 4

Question Number : 122 Question Id : 48558436507 Question Type : MCQ Option Shuffling : No Is Question Mandatory : No Calculator : None Response Time : N.A Think Time : N.A Minimum Instruction Time : 0

Correct Marks : 5 Wrong Marks : 1

Question Key Details :

Key	Value
Comprehension	MCQ

Which minister looked after the finances in the Mughal Empire?

1. Sadr-us-Sadur
2. Diwan-i-Ala
3. Mir Bakshi
4. Mir Saman

Options :

485584146025. 1
485584146026. 2
485584146027. 3
485584146028. 4

Question Number : 122 Question Id : 48558436507 Question Type : MCQ Option Shuffling : No Is Question Mandatory : No Calculator : None Response Time : N.A Think Time : N.A Minimum Instruction Time : 0

Correct Marks : 5 Wrong Marks : 1

Question Key Details :

Key	Value
Comprehension	MCQ

_____ मंत्री मुघल साम्राज्यमां नाषान्नी देपरिषद राप्पता इतां.

1. सद-उस-सदुर
2. दीवान-ई-अव
3. मीरबक्षी
4. मीर समन

Options :

485584146025. 1
485584146026. 2
485584146027. 3
485584146028. 4

Question Number : 123 Question Id : 48558436508 Question Type : MCQ Option Shuffling : No Is Question Mandatory : No Calculator : None Response Time : N.A Think Time : N.A Minimum Instruction Time : 0

Correct Marks : 5 Wrong Marks : 1

Question Key Details :

Key	Value
Comprehension	MCQ

Whom did Akbar honour with the title "Zarrin qalam"?

1. Muhammad Husayn
2. Abul Hasan
3. Payag
4. Abdul Hamid Lahori

Options :

485584146029. 1
485584146030. 2
485584146031. 3
485584146032. 4

Question Number : 123 Question Id : 48558436508 Question Type : MCQ Option Shuffling : No Is Question Mandatory : No Calculator : None Response Time : N.A Think Time : N.A Minimum Instruction Time : 0

Correct Marks : 5 Wrong Marks : 1

Question Key Details :

Key	Value
Comprehension	MCQ

અકબરે કોને ઝરીન કલામ ઉપાધિથી સન્માનિત કર્યા હતાં ?

1. મુહમ્મદ હુસૈન
2. અબુલ હસન
3. પયગ
4. અબ્દુલ હમીદ વાહોરી

Options :

485584146029. 1
485584146030. 2
485584146031. 3
485584146032. 4

Question Number : 124 Question Id : 48558436509 Question Type : MCQ Option Shuffling : No Is Question Mandatory : No Calculator : None Response Time : N.A Think Time : N.A Minimum Instruction Time : 0

Correct Marks : 5 Wrong Marks : 1

Question Key Details :

Key	Value
Comprehension	MCQ

The Permanent Settlement came into operation in _____.

1. 1864
2. 1757
3. 1793
4. 1800

Options :

485584146033. 1
485584146034. 2
485584146035. 3
485584146036. 4

Question Number : 124 Question Id : 48558436509 Question Type : MCQ Option Shuffling : No Is Question Mandatory : No Calculator : None Response Time : N.A Think Time : N.A Minimum Instruction Time : 0

Correct Marks : 5 Wrong Marks : 1

Question Key Details :

Key	Value
Comprehension	MCQ

પરમેન્ટ સેટલમેન્ટ _____ માં અમલમાં આવ્યું હતું.

1. 1864
2. 1757
3. 1793
4. 1800

Options :

485584146033. 1
485584146034. 2
485584146035. 3
485584146036. 4

Question Number : 125 Question Id : 48558436510 Question Type : MCQ Option Shuffling : No Is Question Mandatory : No Calculator : None Response Time : N.A Think Time : N.A Minimum Instruction Time : 0

Correct Marks : 5 Wrong Marks : 1

Question Key Details :

Key	Value
Comprehension	MCQ

The Manchester Cotton Company was formed in the year _____.

1. 1857
2. 1858
3. 1859
4. 1860

Options :

485584146037. 1
485584146038. 2
485584146039. 3
485584146040. 4

Question Number : 125 Question Id : 48558436510 Question Type : MCQ Option Shuffling : No Is Question Mandatory : No Calculator : None Response Time : N.A Think Time : N.A Minimum Instruction Time : 0

Correct Marks : 5 Wrong Marks : 1

Question Key Details :

Key	Value
Comprehension	MCQ

मायिस्टर डोटन कंपनीनी स्थापना _____ वर्षमां करवामां आवी हती.

1. 1857
2. 1858
3. 1859
4. 1860

Options :

485584146037. 1
485584146038. 2
485584146039. 3
485584146040. 4

Question Number : 126 Question Id : 48558436511 Question Type : MCQ Option Shuffling : No Is Question Mandatory : No Calculator : None Response Time : N.A Think Time : N.A Minimum Instruction Time : 0

Correct Marks : 5 Wrong Marks : 1

Question Key Details :

Key	Value
Comprehension	MCQ

Before the age of railway, the town of Mirzapur was a collection centre for cotton from which area?

1. Punjab
2. Tamil Nadu
3. Gujarat
4. Deccan

Options :

485584146041. 1
485584146042. 2
485584146043. 3
485584146044. 4

Question Number : 126 Question Id : 48558436511 Question Type : MCQ Option Shuffling : No Is Question Mandatory : No Calculator : None Response Time : N.A Think Time : N.A Minimum Instruction Time : 0

Correct Marks : 5 Wrong Marks : 1

Question Key Details :

Key	Value
Comprehension	MCQ

रेल्वेयुग पूर्व मिर्जानगर कथा विस्तारमांथी कपासनु संग्रह केन्द्र छतुं ?

1. पंजाब
2. तामिळनाडु
3. गुजरात
4. केरल

Options :

485584146041. 1
485584146042. 2
485584146043. 3
485584146044. 4

Question Number : 127 Question Id : 48558436512 Question Type : MCQ Option Shuffling : No Is Question Mandatory : No Calculator : None Response Time : N.A Think Time : N.A Minimum Instruction Time : 0

Correct Marks : 5 Wrong Marks : 1

Question Key Details :

Key	Value
Comprehension	MCQ

Satyajit Ray's film 'Jalshaghar' dealt with the subject matter of _____.

1. India's freedom struggle.
2. The decline of the aristocratic zamindari style of living.
3. Revolt of 1857.
4. Swadeshi Movement in Bengal.

Options :

485584146045. 1
485584146046. 2
485584146047. 3
485584146048. 4

Question Number : 127 Question Id : 48558436512 Question Type : MCQ Option Shuffling : No Is Question Mandatory : No Calculator : None Response Time : N.A Think Time : N.A Minimum Instruction Time : 0

Correct Marks : 5 Wrong Marks : 1

Question Key Details :

Key	Value
Comprehension	MCQ

સત્યજીત રાયની ફિલ્મ જવસાયર _____ વિષયની સાથે સંબંધિત છે.

1. ભારતની આઝાદીની ચળવળ
2. વૈભવશાળી જમીનદારી જીવનશૈલીનું પતન
3. 1857નો બળવો
4. બંગાળમાં સ્વદેશી આંદોલન

Options :

485584146045. 1
485584146046. 2
485584146047. 3
485584146048. 4

Question Number : 128 Question Id : 48558436513 Question Type : MCQ Option Shuffling : No Is Question Mandatory : No Calculator : None Response Time : N.A Think Time : N.A Minimum Instruction Time : 0

Correct Marks : 5 Wrong Marks : 1

Question Key Details :

Key	Value
Comprehension	MCQ

Who organised the zoo which later on became the Calcutta Alipore Zoo?

1. Francis Buchanan
2. Augustus Cornwallis
3. Charles Cornwallis
4. Maharaja Mehtab Chand

Options :

485584146049. 1
485584146050. 2
485584146051. 3
485584146052. 4

Question Number : 128 Question Id : 48558436513 Question Type : MCQ Option Shuffling : No Is Question Mandatory : No Calculator : None Response Time : N.A Think Time : N.A Minimum Instruction Time : 0

Correct Marks : 5 Wrong Marks : 1

Question Key Details :

Key	Value
Comprehension	MCQ

નીચેનામાંથી કોણે પ્રાણીસંગ્રહાલયનું આયોજન કર્યું હતું જે પાછળથી કલકત્તા અલીપોર પ્રાણી એગ્રહાલય બન્યું હતું.

1. ફાન્સીસ બ્યુચમેન
2. ઓગસ્ટસ કોર્નવોલીસ
3. ચાર્લ્સ કોર્નવોલીસ
4. મહારાજા મેહતબચંદ

Options :

485584146049. 1
485584146050. 2
485584146051. 3
485584146052. 4

Question Number : 129 Question Id : 48558436514 Question Type : MCQ Option Shuffling : No Is Question Mandatory : No Calculator : None Response Time : N.A Think Time : N.A Minimum Instruction Time : 0

Correct Marks : 5 Wrong Marks : 1

Question Key Details :

Key	Value
Comprehension	MCQ

Where is 'Borah Bazaar' located?

1. Madras
2. Bombay
3. Lucknow
4. Shimla

Options :

485584146053. 1
485584146054. 2
485584146055. 3
485584146056. 4

Question Number : 129 Question Id : 48558436514 Question Type : MCQ Option Shuffling : No Is Question Mandatory : No Calculator : None Response Time : N.A Think Time : N.A Minimum Instruction Time : 0

Correct Marks : 5 Wrong Marks : 1

Question Key Details :

Key	Value
Comprehension	MCQ

બોરાહ બજાર કયાં આવેલું છે ?

1. મદ્રાસ
2. બોમ્બે
3. લખનૌ
4. સીમલા

Options :

485584146053. 1
485584146054. 2
485584146055. 3
485584146056. 4

Question Number : 130 Question Id : 48558436515 Question Type : MCQ Option Shuffling : No Is Question Mandatory : No Calculator : None Response Time : N.A Think Time : N.A Minimum Instruction Time : 0

Correct Marks : 5 Wrong Marks : 1

Question Key Details :

Key	Value
Comprehension	MCQ

Name the historian who remarked that South Africa was "the making of Mahatma".

1. Lala Lajpat Rai
2. Bal Gangadhar Tilak
3. Chandran Devanesan
4. Abindranath Tagore

Options :

485584146057. 1
485584146058. 2
485584146059. 3
485584146060. 4

Question Number : 130 Question Id : 48558436515 Question Type : MCQ Option Shuffling : No Is Question Mandatory : No Calculator : None Response Time : N.A Think Time : N.A Minimum Instruction Time : 0

Correct Marks : 5 Wrong Marks : 1

Question Key Details :

Key	Value
Comprehension	MCQ

એ ઈતિહાસીકારનું નામ આપો જેમણે દક્ષિણ આફ્રિકા ધ મેકીંગ ઓફ મહાત્મા હતું તેવી ટીપ્પણી કરી છે.

1. વાલાલજપત રાય
2. બાલગંગાધર તિલક
3. ચંદન દેવાનેસન
4. અબીન્ટુનાથ ટાગોર

Options :

485584146057. 1
485584146058. 2
485584146059. 3
485584146060. 4

Question Number : 131 Question Id : 48558436516 Question Type : MCQ Option Shuffling : No Is Question Mandatory : No Calculator : None Response Time : N.A Think Time : N.A Minimum Instruction Time : 0

Correct Marks : 5 Wrong Marks : 1

Question Key Details :

Key	Value
Comprehension	MCQ

Who from among the following nationalist leaders belonged to the group of Moderates?

1. Bipin Chandra Pal
2. Bal Gangadhar Tilak
3. Gopal Krishna Gokhale
4. Chandrashekhhar Azad

Options :

485584146061. 1
485584146062. 2
485584146063. 3
485584146064. 4

Question Number : 131 Question Id : 48558436516 Question Type : MCQ Option Shuffling : No Is Question Mandatory : No Calculator : None Response Time : N.A Think Time : N.A Minimum Instruction Time : 0

Correct Marks : 5 Wrong Marks : 1

Question Key Details :

Key	Value
Comprehension	MCQ

नीचेनामांथी कया राष्ट्रवादी नेताये मवाणवादी जुथना हतां.

1. पीपीनयंद्र पाव
2. भाव गंगाधर तीवक
3. गोपावकीश गोभवे
4. यंद्रशेभर आजाड

Options :

485584146061. 1
485584146062. 2
485584146063. 3
485584146064. 4

Question Number : 132 Question Id : 48558436517 Question Type : MCQ Option Shuffling : No Is Question Mandatory : No Calculator : None Response Time : N.A Think Time : N.A Minimum Instruction Time : 0

Correct Marks : 5 Wrong Marks : 1

Question Key Details :

Key	Value
Comprehension	MCQ

Who amongst the following were close associates of Gandhi in the years 1917-1922?

- A. Vallabhbhai Patel
- B. Subhas Chandra Bose
- C. Annie Besant
- D. Govind Ballabh Pant
- E. B.R. Ambedkar

Choose the **correct** answer from the options given below:

1. A, C, E only
2. A, B, E only
3. B, D, C only
4. A, B, D only

Options :

485584146065. 1
485584146066. 2
485584146067. 3
485584146068. 4

Question Number : 132 Question Id : 48558436517 Question Type : MCQ Option Shuffling : No Is Question Mandatory : No Calculator : None Response Time : N.A Think Time : N.A Minimum Instruction Time : 0

Correct Marks : 5 Wrong Marks : 1

Question Key Details :

Key	Value
Comprehension	MCQ

નીચેનામાંથી કોણ 1917 - 1922 ના વર્ષો દરમિયાન ગાંધીજીના નજીકના સહયોગી હતા ?

- A. વલ્લભભાઈ પટેલ
- B. સુભાષચંદ્ર બોઝ
- C. એની બેસન્ટ
- D. ગોવંદ વલ્લભચંત
- E. બી.આર.આંબેડકર

નીચે આપેલા વિકલ્પોમાંથી સાચો જવાબ પસંદ કરો.

- 1. માત્ર A, C, E
- 2. માત્ર A, B, E
- 3. માત્ર B, D, C
- 4. માત્ર A, B, D

Options :

- 485584146065. 1
- 485584146066. 2
- 485584146067. 3
- 485584146068. 4

Question Number : 133 Question Id : 48558436518 Question Type : MCQ Option Shuffling : No Is Question Mandatory : No Calculator : None Response Time : N.A Think Time : N.A Minimum Instruction Time : 0

Correct Marks : 5 Wrong Marks : 1

Question Key Details :

Key	Value
Comprehension	MCQ

Match List I with List II:

LIST I		LIST II	
A.	Dandi March	I.	1917
B.	Khilafat Movement	II.	1942
C.	Quit India Movement	III.	1921
D.	Champaran Movement	IV.	1930

Choose the correct answer from the options given below:

- 1. A-I, B-II, C-III, D-IV
- 2. A-II, B-IV, C-I, D-III
- 3. A-IV, B-III, C-II, D-I
- 4. A-III, B-IV, C-I, D-II

Options :

- 485584146069. 1
- 485584146070. 2
- 485584146071. 3

485584146072. 4

Question Number : 133 Question Id : 48558436518 Question Type : MCQ Option Shuffling : No Is Question Mandatory : No Calculator : None Response Time : N.A Think Time : N.A Minimum Instruction Time : 0

Correct Marks : 5 Wrong Marks : 1

Question Key Details :

Key	Value
Comprehension	MCQ

સૂચિ I ને સૂચિ II સાથે જોડો.

સૂચિ I		સૂચિ II	
A.	દાંડીકૂચ	I.	1917
B.	ખીવાકત ચળવળ	II.	1942
C.	હિંદ છોડો ચળવળ	III.	1921
D.	ચંપારણ ચળવળ	IV.	1930

નીચે આપેલા વિકલ્પોમાંથી સાચો જવાબ પસંદ કરો.

1. A-I, B-II, C-III, D-IV
2. A-II, B-IV, C-I, D-III
3. A-IV, B-III, C-II, D-I
4. A-III, B-IV, C-I, D-II

Options :

485584146069. 1

485584146070. 2

485584146071. 3

485584146072. 4

Question Number : 134 Question Id : 48558436519 Question Type : MCQ Option Shuffling : No Is Question Mandatory : No Calculator : None Response Time : N.A Think Time : N.A Minimum Instruction Time : 0

Correct Marks : 5 Wrong Marks : 1

Question Key Details :

Key	Value
Comprehension	MCQ

Chronologically arrange the following movements led by Mahatma Gandhi.

- A. Rowlatt Satyagraha
- B. Kheda Movement
- C. Champaran Satyagraha
- D. Ahmedabad Mill Strike
- E. Dandi March

Choose the correct answer from the options given below:

- 1. A, B, C, D, E
- 2. B, D, C, A, E
- 3. C, D, B, A, E
- 4. C, A, B, D, E

Options :

- 485584146073. 1
- 485584146074. 2
- 485584146075. 3
- 485584146076. 4

Question Number : 134 Question Id : 48558436519 Question Type : MCQ Option Shuffling : No Is Question Mandatory : No Calculator : None Response Time : N.A Think Time : N.A Minimum Instruction Time : 0

Correct Marks : 5 Wrong Marks : 1

Question Key Details :

Key	Value
Comprehension	MCQ

નીચે આપેલી મહાત્મા ગાંધીના નેતૃત્વ હેઠળની યજ્ઞવળીને ક્રોનોલોજીકલ ક્રમમાં ગોઠવો.

- A. રોલેટ સત્યાગ્રહ
- B. ખેડા સત્યાગ્રહ
- C. ચંપારણ સત્યાગ્રહ
- D. અમદાવાદ મીલ હડતાલ
- E. દાંડીકૂચ

નીચે આપેલા વિકલ્પોમાંથી સાચો જવાબ પસંદ કરો.

- 1. A, B, C, D, E
- 2. B, D, C, A, E
- 3. C, D, B, A, E
- 4. C, A, B, D, E

Options :

- 485584146073. 1
- 485584146074. 2
- 485584146075. 3

485584146076.4

Question Number : 135 Question Id : 48558436520 Question Type : MCQ Option Shuffling : No Is Question Mandatory : No Calculator : None Response Time : N.A Think Time : N.A Minimum Instruction Time : 0

Correct Marks : 5 Wrong Marks : 1

Question Key Details :

Key	Value
Comprehension	MCQ

The 'Hindu Mahasabha' was founded in _____.

1. 1917
2. 1915
3. 1916
4. 1919

Options :

- 485584146077. 1
- 485584146078. 2
- 485584146079. 3
- 485584146080. 4

Question Number : 135 Question Id : 48558436520 Question Type : MCQ Option Shuffling : No Is Question Mandatory : No Calculator : None Response Time : N.A Think Time : N.A Minimum Instruction Time : 0

Correct Marks : 5 Wrong Marks : 1

Question Key Details :

Key	Value
Comprehension	MCQ

હિંદુ મહાસભાની સ્થાપના _____ માં થઈ હતી.

1. 1917
2. 1915
3. 1916
4. 1919

Options :

- 485584146077. 1
- 485584146078. 2
- 485584146079. 3
- 485584146080. 4

Question Number : 136 Question Id : 48558436521 Question Type : MCQ Option Shuffling : No Is Question Mandatory : No Calculator : None Response Time : N.A Think Time : N.A Minimum Instruction Time : 0

Correct Marks : 5 Wrong Marks : 1

Question Key Details :

Key	Value
Comprehension	MCQ

On which date did the Constituent Assembly begin its sessions?

1. 6 December 1946
2. 9 December 1946
3. 15 July 1946
4. 16 July 1946

Options :

485584146081. 1
485584146082. 2
485584146083. 3
485584146084. 4

Question Number : 136 Question Id : 48558436521 Question Type : MCQ Option Shuffling : No Is Question Mandatory : No Calculator : None Response Time : N.A Think Time : N.A Minimum Instruction Time : 0

Correct Marks : 5 Wrong Marks : 1

Question Key Details :

Key	Value
Comprehension	MCQ

નીચેનામાંથી કઈ તારીખે બંધારણ સભાનું સત્ર શરૂ થયું હતું ?

1. 6 ડિસેમ્બર 1946
2. 9 ડિસેમ્બર 1946
3. 15 જુલાઈ 1946
4. 16 જુલાઈ 1946

Options :

485584146081. 1
485584146082. 2
485584146083. 3
485584146084. 4

Question Number : 137 Question Id : 48558436522 Question Type : MCQ Option Shuffling : No Is Question Mandatory : No Calculator : None Response Time : N.A Think Time : N.A Minimum Instruction Time : 0

Correct Marks : 5 Wrong Marks : 1

Question Key Details :

Key	Value
Comprehension	MCQ

Match List I with List II:

LIST I		LIST II	
A.	Cultural and Educational Rights	I.	Articles 25-28
B.	Right to Equality	II.	Articles 17
C.	Freedom of Religion	III.	Article 14-16
D.	Abolition of Untouchability	IV.	Articles 29,30

Choose the correct answer from the options given below:

1. A-II, B-III, C-IV, D-I
2. A-IV, B-III, C-II, D-I
3. A-I, B-II, C-III, D-IV
4. A-IV, B-III, C-I, D-II

Options :

485584146085. 1
485584146086. 2
485584146087. 3
485584146088. 4

Question Number : 137 Question Id : 48558436522 Question Type : MCQ Option Shuffling : No Is Question Mandatory : No Calculator : None Response Time : N.A Think Time : N.A Minimum Instruction Time : 0

Correct Marks : 5 Wrong Marks : 1

Question Key Details :

Key	Value
Comprehension	MCQ

સૂચિ I ને સૂચિ II સાથે જોડો.

સૂચિ I		સૂચિ II	
A.	સાંસ્કૃતિક અને શૈક્ષણિક અધિકારો	I.	આર્ટિકલ 25 - 28
B.	સમાનતાની અધિકાર	II.	આર્ટિકલ 17
C.	ધર્મની સ્વતંત્રતા	III.	આર્ટિકલ 14 - 16
D.	અસ્પૃશ્યતાની નાબૂદી	IV.	આર્ટિકલ 29 - 30

નીચે આપેલા વિકલ્પોમાંથી સાચો જવાબ પસંદ કરો.

1. A-II, B-III, C-IV, D-I
2. A-IV, B-III, C-II, D-I
3. A-I, B-II, C-III, D-IV
4. A-IV, B-III, C-I, D-II

Options :

485584146085. 1
485584146086. 2
485584146087. 3

Question Number : 138 Question Id : 48558436523 Question Type : MCQ Option Shuffling : No Is Question Mandatory : No Calculator : None Response Time : N.A Think Time : N.A Minimum Instruction Time : 0

Correct Marks : 5 Wrong Marks : 1

Question Key Details :

Key	Value
Comprehension	MCQ

Who were the two other lawyers serving with B.R. Ambedkar on the Drafting Committee of the Constitution?

- A. K.M. Munshi
- B. B.N Rau
- C. Alladi Krishnaswamy Aiyar
- D. S.N. Mukherjee
- E. Rajendra Prasad

Choose the **correct** answer from the options given below:

- 1. A, B only
- 2. B, C only
- 3. A, C only
- 4. D, E only

Options :

- 485584146089. 1
- 485584146090. 2
- 485584146091. 3
- 485584146092. 4

Question Number : 138 Question Id : 48558436523 Question Type : MCQ Option Shuffling : No Is Question Mandatory : No Calculator : None Response Time : N.A Think Time : N.A Minimum Instruction Time : 0

Correct Marks : 5 Wrong Marks : 1

Question Key Details :

Key	Value
Comprehension	MCQ

બંધારણની ડ્રાફ્ટીંગ કમિટિમાં બી.આર.આંબેડકરની સાથે બીજા બે કયા વકીલો કામ કરતા હતા ?

- A. કે. એમ. મુનશી
- B. બી. એન. રાવ
- C. અલ્લાદી કિશ્નસ્વામી ઐયર
- D. એસ. એન. મુખરજી
- E. રાજેન્દ્ર પ્રસાદ

નીચે આપેલા વિકલ્પોમાંથી સાચો જવાબ પસંદ કરો.

- 1. માત્ર A અને B
- 2. માત્ર B અને C
- 3. માત્ર A અને C
- 4. માત્ર D અને E

Options :

- 485584146089. 1
- 485584146090. 2
- 485584146091. 3
- 485584146092. 4

Question Number : 139 Question Id : 48558436524 Question Type : MCQ Option Shuffling : No Is Question Mandatory : No Calculator : None Response Time : N.A Think Time : N.A Minimum Instruction Time : 0

Correct Marks : 5 Wrong Marks : 1

Question Key Details :

Key	Value
Comprehension	MCQ

Arrange the following in a chronological order:

- A. Constituent Assembly begins its session.
- B. Muslim League accepts Cabinet Mission's constitutional scheme.
- C. Muslim League decides to join the Interim Government.
- D. Muslim League announces Direct Action Day.
- E. Muslim League demands dissolution of the Constituent Assembly.

Choose the **correct** answer from the options given below:

- 1. B, D, C, A, E
- 2. B, A, D, C, E
- 3. A, B, C, D, E
- 4. D, A, E, B, C

Options :

- 485584146093. 1
- 485584146094. 2
- 485584146095. 3

485584146096. 4

Question Number : 139 Question Id : 48558436524 Question Type : MCQ Option Shuffling : No Is Question Mandatory : No Calculator : None Response Time : N.A Think Time : N.A Minimum Instruction Time : 0

Correct Marks : 5 Wrong Marks : 1

Question Key Details :

Key	Value
Comprehension	MCQ

નીચે આપેલા વિધાનોને કોનોલોજીકલ ક્રમમાં ગોઠવો.

- A. બંધારણ સભાનું સત્ર શરૂ થયું
- B. મુસ્લીમ લીગે કેબીનેટ મીશનની બંધારણીય યોજનાનો સ્વીકાર કર્યો
- C. મુસ્લીમ લીગે વચગાળાની સરકારમાં જોડાવાનો નિર્ણય કર્યો
- D. મુસ્લીમ લીગે સીધા પગલા દિવસની જાહેરાત કરી
- E. મુસ્લીમ લીગે બંધારણ સભાના વિસર્જનની માંગણી કરી.

નીચે આપેલા વિકલ્પોમાંથી સાચો જવાબ પસંદ કરો.

- 1. B, D, C, A, E
- 2. B, A, D, C, E
- 3. A, B, C, D, E
- 4. D, A, E, B, C

Options :

- 485584146093. 1
- 485584146094. 2
- 485584146095. 3
- 485584146096. 4

Question Number : 140 Question Id : 48558436525 Question Type : MCQ Option Shuffling : No Is Question Mandatory : No Calculator : None Response Time : N.A Think Time : N.A Minimum Instruction Time : 0

Correct Marks : 5 Wrong Marks : 1

Question Key Details :

Key	Value
Comprehension	MCQ

Which of the following statements are **True** for the Constituent Assembly?

- A. It was boycotted by the Muslim League.
- B. It was elected by Universal Franchise.
- C. Its members were chosen by Provincial Legislatures.
- D. Majority of its members belonged to the Socialist Party.
- E. Constituent Assembly was dominated by three parties.

Choose the **correct** answer from the options given below:

- 1. A, E only
- 2. B, D only
- 3. A, C only
- 4. B, E only

Options :

- 485584146097. 1
- 485584146098. 2
- 485584146099. 3
- 485584146100. 4

Question Number : 140 Question Id : 48558436525 Question Type : MCQ Option Shuffling : No Is Question Mandatory : No Calculator : None Response Time : N.A Think Time : N.A Minimum Instruction Time : 0

Correct Marks : 5 Wrong Marks : 1

Question Key Details :

Key	Value
Comprehension	MCQ

નીચેના વિધાનોમાંથી કયાં વિધાનો બંધારણ સભા માટે સાચા છે ?

- A. મુસ્લીમ લીગ દ્વારા તેનો બહિષ્કાર થયો હતો.
- B. તે યુનીવર્સલ ફ્રેન્ચાઇઝ દ્વારા ચૂંટવામાં આવી હતી.
- C. તેના સભ્યો પ્રાંતીય ધારાસભા દ્વારા પસંદ કરવામાં આવ્યા હતા.
- D. તેના મોટાભાગના સભ્યો સમાજવાદી પક્ષમાંથી આવતા હતાં.
- E. બંધારણસભા ઉપર ત્રણ પક્ષોનું વર્ચસ્વ હતું.

નીચે આપેલા વિકલ્પોમાંથી સાચો જવાબ પસંદ કરો.

- 1. માત્ર A અને E
- 2. માત્ર B અને D
- 3. માત્ર A અને C
- 4. માત્ર B અને E

Options :

- 485584146097. 1
- 485584146098. 2
- 485584146099. 3

485584146100.4

Sub-Section Number : 2
Sub-Section Id : 4855842697
Question Shuffling Allowed : No
Is Section Default? : null

Question Number : 141 Question Id : 48558436526 Question Type : MCQ Option Shuffling : No Is Question Mandatory : No Calculator : None Response Time : N.A Think Time : N.A Minimum Instruction Time : 0

Correct Marks : 5 Wrong Marks : 1

Question Key Details :

Key	Value
Comprehension	Comp1

Read the passage and answer the questions :

According to Buddhist philosophy, the world is transient (anicca) and constantly changing; it is also soulless (anatta) as there is nothing permanent or eternal in it. Within this transient world, sorrow (dukkha) is intrinsic to human existence. It is by following the path of moderation between severe penance and self-indulgence that human beings can rise above these worldly troubles. In the earliest forms of Buddhism whether or not god existed was irrelevant.

Which of the following statement is **NOT True** regarding the Buddhist philosophy?

1. The world is transient and constantly changing.
2. Sorrow is intrinsic to human existence.
3. Humans can rise above sorrow by following the path of severe penance and self-indulgence.
4. The world is soulless as there is nothing permanent or eternal in it.

Options :

485584146101. 1
485584146102. 2
485584146103. 3
485584146104. 4

Question Number : 141 Question Id : 48558436526 Question Type : MCQ Option Shuffling : No Is Question Mandatory : No Calculator : None Response Time : N.A Think Time : N.A Minimum Instruction Time : 0

Correct Marks : 5 Wrong Marks : 1

Question Key Details :

Key	Value
Comprehension	Comp1

બુદ્ધ તત્વજ્ઞાન અનુસાર વિશ્વ ક્ષણિક અને સતત બદલાતુ રહે છે, તે આત્મારહિત (અનાત્મા) પણ છે કારણ કે તેમા કાયમી કે શાશ્વત કશુ નથી. આ ક્ષણિક વિશ્વમાં દુઃખ (દુઃખ) માનવ અસ્તિત્વનો અંતરંગ (મૂળભૂત) ભાગ છે. કઠોર તપશ્ચર્યા અને આત્મભોગ વચ્ચેના મધ્યમમાર્ગને અનુસરોને જ મનુષ્ય સાંસારિક સમસ્યાઓમાંથી ઉપર ઉઠી શકે છે. બૌદ્ધ ધર્મના પ્રારંભિક સ્વરૂપોમાં ઈશ્વરનું અસ્તિત્વ હતું કે ન હતું તે અપ્રસ્તુત બાબત હતી.

નીચેનામાંથી કયુ વિધાન બુદ્ધ તત્વજ્ઞાન અનુસાર સાચું નથી ?

1. વિશ્વ ક્ષણિક અને સતત બદલાતુ રહે છે.
2. દુઃખ એ માનવ અસ્તિત્વનો અંતરંગ ભાગ છે.
3. મનુષ્ય કઠોર તપશ્ચર્યા અને આત્મભોગના માર્ગચાલીને દુઃખમાંથી ઉપર ઉઠી શકે છે.
4. વિશ્વ આત્મારહિત છે કારણ કે તેના કાયમી કે શાશ્વત કશુ નથી.

Options :

485584146101. 1
485584146102. 2
485584146103. 3
485584146104. 4

Question Number : 142 Question Id : 48558436527 Question Type : MCQ Option Shuffling : No Is Question Mandatory : No Calculator : None Response Time : N.A Think Time : N.A Minimum Instruction Time : 0

Correct Marks : 5 Wrong Marks : 1

Question Key Details :

Key	Value
Comprehension	Comp1

Read the passage and answer the questions :

According to Buddhist philosophy, the world is transient (anicca) and constantly changing; it is also soulless (anatta) as there is nothing permanent or eternal in it. Within this transient world, sorrow (dukkha) is intrinsic to human existence. It is by following the path of moderation between severe penance and self indulgence that human beings can rise above these worldly troubles. In the earliest forms of Buddhism whether or not god existed was irrelevant.

Which of the following idea is NOT a part of the teachings of the Buddha?

1. Importance of right conduct and values.
2. Claims of superiority based on birth.
3. Metta (fellow feeling).
4. Karuna (compassion).

Options :

485584146105. 1
485584146106. 2
485584146107. 3
485584146108. 4

Question Number : 142 Question Id : 48558436527 Question Type : MCQ Option Shuffling : No Is Question Mandatory : No Calculator : None Response Time : N.A Think Time : N.A Minimum Instruction Time : 0

Correct Marks : 5 Wrong Marks : 1

Question Key Details :

Key	Value
Comprehension	Comp1

બુદ્ધ તત્વજ્ઞાન અનુસાર વિશ્વ ક્ષણિક અને સતત બદલાતુ રહે છે, તે આત્મારહિત (અનાત્મા) પણ છે કારણ કે તેમા કાયમી કે શાશ્વત કશુ નથી. આ ક્ષણિક વિશ્વમાં દુઃખ (દુઃખ) માનવ અસ્તિત્વનો અંતરંગ (મૂળસુત) ભાગ છે. કઠોર તપશ્ચર્યા અને આત્મભોગ વચ્ચેના મધ્યમમાર્ગને અનુસરીને જ મનુષ્ય સાંસારિક સમસ્યાઓમાંથી ઉપર ઉઠી શકે છે. બૌદ્ધ ધર્મના પ્રારંભિક સ્વરૂપોમાં ઈશ્વરનું અસ્તિત્વ હતું કે ન હતું તે અપ્રસ્તુત બાબત હતી.

નીચેનામાંથી કયો વિચાર બુદ્ધના ઉપદેશોનો ભાગ નથી ?

1. યોગ્ય આચરણ અને મૂલ્યોનું મહત્વ
2. જન્મના આધારે શ્રેષ્ઠતાની દાવો
3. સહાનુભૂતિ
4. કરુણા

Options :

485584146105. 1
485584146106. 2
485584146107. 3
485584146108. 4

Question Number : 143 Question Id : 48558436528 Question Type : MCQ Option Shuffling : No Is Question Mandatory : No Calculator : None Response Time : N.A Think Time : N.A Minimum Instruction Time : 0

Correct Marks : 5 Wrong Marks : 1

Question Key Details :

Key	Value
Comprehension	Comp1

Read the passage and answer the questions :

According to Buddhist philosophy, the world is transient (anicca) and constantly changing; it is also soulless (anatta) as there is nothing permanent or eternal in it. Within this transient world, sorrow (dukkha) is intrinsic to human existence. It is by following the path of moderation between severe penance and self indulgence that human beings can rise above these worldly troubles. In the earliest forms of Buddhism whether or not god existed was irrelevant.

In Buddhism, the followers of the older tradition, who followed the old path and respected teachers, described themselves as:

1. Theravadins
2. Mahayanas
3. Taravadins
4. Tantrics

Options :

485584146109. 1
485584146110. 2
485584146111. 3
485584146112. 4

Question Number : 143 Question Id : 48558436528 Question Type : MCQ Option Shuffling : No Is Question Mandatory : No Calculator : None Response Time : N.A Think Time : N.A Minimum Instruction Time : 0

Correct Marks : 5 Wrong Marks : 1

Question Key Details :

Key	Value
Comprehension	Comp1

બુદ્ધ તત્વજ્ઞાન અનુસાર વિશ્વ ક્ષણિક અને સતત બદલાતુ રહે છે, તે આત્મારહિત (અનાત્મા) પણ છે કારણ કે તેમા કાયમી કે શાશ્વત કશુ નથી. આ ક્ષણિક વિશ્વમાં દુઃખ (દુઃખ) માનવ અસ્તિત્વનો અંતરંગ (મૂળસુત) ભાગ છે. કઠોર તપશ્ચર્યા અને આત્મભોગ વચ્ચેના મધ્યમમાર્ગને અનુસરીને જ મનુષ્ય સાંસારિક સમસ્યાઓમાંથી ઉપર ઉઠી શકે છે. બૌદ્ધ ધર્મના પ્રારંભિક સ્વરૂપોમાં ઈશ્વરનું અસ્તિત્વ હતું કે ન હતું તે અપ્રસ્તુત બાબત હતી.

બૌદ્ધ ધર્મમાં જુની પરંપરાના અનુયાયીઓ, જેઓ જુના માર્ગને અનુસરતા હતા અને ઉપદેશકોને માન આપતા હતા, તેમનું વર્ણન _____ તરીકે કરવામાં આવ્યું છે.

1. થેરવાદીઓ
2. મહાયાનપંથી
3. તારાવાદીઓ
4. તાંત્રિક

Options :

485584146109. 1
485584146110. 2
485584146111. 3
485584146112. 4

Question Number : 144 Question Id : 48558436529 Question Type : MCQ Option Shuffling : No Is Question Mandatory : No Calculator : None Response Time : N.A Think Time : N.A Minimum Instruction Time : 0

Correct Marks : 5 Wrong Marks : 1

Question Key Details :

Key	Value
Comprehension	Comp1

Read the passage and answer the questions :

According to Buddhist philosophy, the world is transient (anicca) and constantly changing; it is also soulless (anatta) as there is nothing permanent or eternal in it. Within this transient world, sorrow (dukkha) is intrinsic to human existence. It is by following the path of moderation between severe penance and self indulgence that human beings can rise above these worldly troubles. In the earliest forms of Buddhism whether or not god existed was irrelevant.

Where did Gautama Buddha attain 'nibbana'?

1. Lumbini
2. Rajgriha
3. Samath
4. Kusinagara

Options :

485584146113. 1
485584146114. 2
485584146115. 3
485584146116. 4

Question Number : 144 Question Id : 48558436529 Question Type : MCQ Option Shuffling : No Is Question Mandatory : No Calculator : None Response Time : N.A Think Time : N.A Minimum Instruction Time : 0

Correct Marks : 5 Wrong Marks : 1

Question Key Details :

Key	Value
Comprehension	Comp1

બુદ્ધ તત્વજ્ઞાન અનુસાર વિશ્વ ક્ષણિક અને સતત બદલાતું રહે છે, તે આત્મારહિત (અનાત્મા) પણ છે કારણ કે તેમાં કાયમી કે શાશ્વત કશું નથી. આ ક્ષણિક વિશ્વમાં દુઃખ (દુઃખ) માનવ અસ્તિત્વનો અંતરંગ (મૂળભૂત) ભાગ છે. કઠોર તપશ્ચર્યા અને આત્મભોગ વચ્ચેના મધ્યમમાર્ગને અનુસરીને જ મનુષ્ય સાંસારિક સમસ્યાઓમાંથી ઉપર ઉઠી શકે છે. બૌદ્ધ ધર્મના પ્રારંભિક સ્વરૂપોમાં ઈશ્વરનું અસ્તિત્વ હતું કે ન હતું તે અપ્રસ્તુત બાબત હતી.

ગૌતમ બુદ્ધે કયા સ્થળે નિર્વાણ પ્રાપ્ત કર્યું હતું.

1. લુમ્બીની
2. રાજગ્રહ
3. સારનાથ
4. કુશીનારા

Options :

485584146113. 1
485584146114. 2
485584146115. 3
485584146116. 4

Question Number : 145 Question Id : 48558436530 Question Type : MCQ Option Shuffling : No Is Question Mandatory : No Calculator : None Response Time : N.A Think Time : N.A Minimum Instruction Time : 0

Correct Marks : 5 Wrong Marks : 1

Question Key Details :

Key	Value
Comprehension	Comp1

Read the passage and answer the questions :

According to Buddhist philosophy, the world is transient (anicca) and constantly changing; it is also soulless (anatta) as there is nothing permanent or eternal in it. Within this transient world, sorrow (dukkha) is intrinsic to human existence. It is by following the path of moderation between severe penance and self indulgence that human beings can rise above these worldly troubles. In the earliest forms of Buddhism whether or not god existed was irrelevant.

Which of the following statements are **True** about the teachings of Buddha?

- A. The Buddha regarded the social world as of divine origin.
- B. The Buddha advised kings and gahapatis to be humane and ethical.
- C. The Buddha believed that collective effort was required to transform social relations.
- D. The Buddha emphasised individual agency and righteous action to escape from the cycle of birth.
- E. The Buddha asserted that the extinguishing of ego and desire would end the cycle of suffering.

Choose the **correct** answer from the options given below:

- 1. C, D, E only
- 2. B, C, D only
- 3. A, B, D only
- 4. B, D, E only

Options :

- 485584146117. 1
- 485584146118. 2
- 485584146119. 3
- 485584146120. 4

Question Number : 145 Question Id : 48558436530 Question Type : MCQ Option Shuffling : No Is Question Mandatory : No Calculator : None Response Time : N.A Think Time : N.A Minimum Instruction Time : 0

Correct Marks : 5 Wrong Marks : 1

Question Key Details :

Key	Value
Comprehension	Compl

બુદ્ધ તત્વજ્ઞાન અનુસાર વિશ્વ ક્ષણિક અને સતત બદલાતુ રહે છે, તે આત્મારહિત (અનાત્મા) પણ છે કારણ કે તેમા કાયમી કે શાશ્વત કશુ નથી. આ ક્ષણિક વિશ્વમાં દુઃખ (દુઃખ) માનવ અસ્તિત્વનો અંતરંગ (મૂળભુત) ભાગ છે. કઠોર તપશ્ચર્યા અને આત્મભોગ વચ્ચેના મધ્યમમાર્ગને અનુસરીને જ મનુષ્ય સાંસારિક સમસ્યાઓમાંથી ઉપર ઉઠી શકે છે. બૌદ્ધ ધર્મના પ્રારંભિક સ્વરૂપોમાં ઇશ્વરનું અસ્તિત્વ હતું કે ન હતું તે અપ્રસ્તુત બાબત હતી.

નીચે આપેલા બુધ્ધના ઉપદેશો સંબંધિત વિધાનોમાંથી સાચો વિધાન કયો છે ?

- A. બુધ્ધ સામાજિક વિશ્વને દેવી ઉત્પત્તિ તરીકે ગણતા હતા.
- B. બુધ્ધે રાજાઓ ગહપતિઓને માનવીય અને નૈતિક બનવાની સલાહ આપી હતી.
- C. બુધ્ધે માનતા હતા કે સામાજિક સંબંધોમાં પરિવર્તન લાવવા માટે સાજીલક પ્રયાસ જરૂરી છે.
- D. બુધ્ધે દુઃખના ચક્રમાંથી છૂટવા માટે વ્યક્તિગત એજન્સી અને ન્યાયી પગલા ઉપર ભાર મૂક્યો હતો.
- E. બુધ્ધે ભારપૂર્વક જણાવ્યું કે ઈગો અને ઈચ્છાઓને ઓલવી કાઢવાથી દુઃખના ચક્રનો અંત આવશે.

નીચે આપેલા વિકલ્પોમાંથી સાચો જવાબ પસંદ કરો.

- 1. ફક્ત C, D, E
- 2. ફક્ત B, C, D
- 3. ફક્ત A, B, D
- 4. ફક્ત B, D, E

Options :

- 485584146117. 1
- 485584146118. 2
- 485584146119. 3
- 485584146120. 4

Sub-Section Number :

3

Sub-Section Id :

4855842698

Question Shuffling Allowed :

No

Is Section Default? :

null

Question Number : 146 Question Id : 48558436531 Question Type : MCQ Option Shuffling : No Is Question Mandatory : No Calculator : None Response Time : N.A Think Time : N.A Minimum Instruction Time : 0

Correct Marks : 5 Wrong Marks : 1

Question Key Details :

Key	Value
Comprehension	Comp2

Read the passage and answer the questions :

Section I - Regarding Zemindars. It is evident that the British Government in making zemindary settlement have imposed exorbitant *Jumas* (revenue demand) and have disgraced and ruined several Zemindars by putting up their estates for public auction for arrears of rent, in so much, in the institution of a suit by a common Ryot, a maid servant or a slave, the respectable Zemindars are summoned into court, arrested, put in goal and disgraced. In litigation regarding Zemindaries, the immense value of stamps, and other unnecessary expenses of the civil courts,... are all calculated to impoverish the litigants. Besides this, the coffers of the Zemindars are annually taxed with the subscription for schools, hospitals, roads, etc. Such extortions will have no manner of existence in the Badshahi Government; but on the contrary the *Jumas* will be light, the dignity and honour of the Zemindars safe, and every Zemindar will have absolute rule in his own Zemindary...

This excerpt has been taken from:

1. Bijnaur Proclamation of 1857
2. Kanpur Proclamation of 1857
3. Azamgarh Proclamation of 1857
4. Lucknow Proclamation of 1857

Options :

485584146121. 1
485584146122. 2
485584146123. 3
485584146124. 4

Question Number : 146 Question Id : 48558436531 Question Type : MCQ Option Shuffling : No Is Question Mandatory : No Calculator : None Response Time : N.A Think Time : N.A Minimum Instruction Time : 0

Correct Marks : 5 Wrong Marks : 1

Question Key Details :

Key	Value
Comprehension	Comp2

જમીનદારો વિશે: તે તો સ્પષ્ટ છે કે બ્રિટિશ સરકારે જમીનદારી પ્રથા શરૂ કરીને અતિશય જુમાં (મહેસુલની માંગ) વાધ્યો હતો અને ઘણા જમીન દારો તેમની મિલકતો સાડાની બાકી રકમ માટે જાહેર હરાજી માટે મૂકીને બદનામ અને બરબાદ થયા છે. સામાન્ય રૈયત, નોકરયાકર અથવા ગુલામો દ્વારા દાવો કરવામાં આવે છે, આદરણીય જમીનદારો સ્ટેમ્પનું પુષ્કળ મૂલ્ય છે, અને સિવિલ કોર્ટના અન્ય જરૂરી ખર્ચાઓ... આ બધાની ગણતરી અરજદારોને ગરીબ કરવા માટે કરવામાં આવે છે. આ ઉપરાંત જમીનદારોની તીજોરીઓમાંથી શાળાઓ, હોસ્પિટલો રસ્તાઓ વિગેરેના વવાજમ સાથે વાર્ષિક કર વસુલવામાં આવે બાદશાહી સરકારમાં આવી ગેરવસુલીનું અસ્તીત્વ રહેશે નહિ, પરંતુ તેનાથી ઉલટું જુમાં હળવા હશે, જમીનદારોની પ્રતિષ્ઠા અને માન જળવાશે અને દરેક જમીનદાર પાસે હશે તેની પોતાની જમીનમાં સંપૂર્ણ શાસન...

This excerpt has been taken from:

1. 1857નો બીજનૌર ઘોષણા
2. 1857નો કાનપુરની ઘોષણા
3. 1857નો આઝમગઢનો ઘોષણા
4. 1857નો લખનૌની ઘોષણા

Options :

485584146121. 1
485584146122. 2
485584146123. 3
485584146124. 4

Question Number : 147 Question Id : 48558436532 Question Type : MCQ Option Shuffling : No Is Question Mandatory : No Calculator : None Response Time : N.A Think Time : N.A Minimum Instruction Time : 0

Correct Marks : 5 Wrong Marks : 1

Question Key Details :

Key	Value
Comprehension	Comp2

Read the passage and answer the questions :

Section I - Regarding Zemindars. It is evident that the British Government in making zemindary settlement have imposed exorbitant *Jumas* (revenue demand) and have disgraced and ruined several Zemindars by putting up their estates for public auction for arrears of rent, in so much, in the institution of a suit by a common Ryot, a maid servant or a slave, the respectable Zemindars are summoned into court, arrested, put in goal and disgraced. In litigation regarding Zemindaries, the immense value of stamps, and other unnecessary expenses of the civil courts,... are all calculated to impoverish the litigants. Besides this, the coffers of the Zemindars are annually taxed with the subscription for schools, hospitals, roads, etc. Such extortions will have no manner of existence in the Badshahi Government; but on the contrary the *Jumas* will be light, the dignity and honour of the Zemindars safe, and every Zemindar will have absolute rule in his own Zemindary...

"Section I" of the Proclamation addresses to which class?

1. Service gentry class
2. Land holding class
3. Merchant-commercial class
4. Artisans and peasants

Options :

485584146125. 1
485584146126. 2
485584146127. 3
485584146128. 4

Question Number : 147 Question Id : 48558436532 Question Type : MCQ Option Shuffling : No Is Question Mandatory : No Calculator : None Response Time : N.A Think Time : N.A Minimum Instruction Time : 0

Correct Marks : 5 Wrong Marks : 1

Question Key Details :

Key	Value
Comprehension	Comp2

જમીનદારો વિશે: તે તો સ્પષ્ટ છે કે બ્રિટિશ સરકારે જમીનદારી પ્રથા શરૂ કરીને અતિશય જુમાં (મહેસુલની માંગ) વાધ્યો હતો અને ઘણા જમીન દારો તેમની મિલકતો સાડાની બાકી રકમ માટે જાહેર હરાજી માટે મૂકીને બદનામ અને બરબાદ થયા છે. સામાન્ય રૈયત, નોકરચાકર અથવા ગુલામો દ્વારા દાવો કરવામાં આવે છે, આદરણીય જમીનદારો સ્ટેમ્પનું પુષ્ટકળ મૂલ્ય છે, અને સિવિલ કોર્ટના અન્ય જરૂરી ખર્ચાઓ... આ બધાની ગણતરી અરજદારોને ગરીબ કરવા માટે કરવામાં આવે છે. આ ઉપરાંત જમીનદારોની તીજોરીઓમાંથી શાળાઓ, હોસ્પિટલો રસ્તાઓ વિગેરેના વવાજમ સાથે વાર્ષિક કર વસુલવામાં આવે બાદશાહી સરકારમાં આવી ગેરવસુલીનું અસ્તીત્વ રહેશે નહિ, પરંતુ તેનાથી ઉલટું જુમાં હળવા હશે, જમીનદારોની પ્રતિષ્ઠા અને માન જળવાશે અને દરેક જમીનદાર પાસે હશે તેની પોતાની જમીનમાં સંપૂર્ણ શાસન...

ઘોષણાનો "વિભાગ I" કયા વર્ગને સંબોધે છે ?

1. સેવા આપનારો વર્ગ
2. જમીન ધારક વર્ગ
3. વ્યાપારી-વાણિજ્યકીય વર્ગ
4. કારીગરો અને ખેડૂતો

Options :

485584146125. 1
485584146126. 2
485584146127. 3
485584146128. 4

Question Number : 148 Question Id : 48558436533 Question Type : MCQ Option Shuffling : No Is Question Mandatory : No Calculator : None Response Time : N.A Think Time : N.A Minimum Instruction Time : 0

Correct Marks : 5 Wrong Marks : 1

Question Key Details :

Key	Value
Comprehension	Comp2

Read the passage and answer the questions :

Section I - Regarding Zemindars. It is evident that the British Government in making zemindary settlement have imposed exorbitant *Jumas* (revenue demand) and have disgraced and ruined several Zemindars by putting up their estates for public auction for arrears of rent, in so much, in the institution of a suit by a common Ryot, a maid servant or a slave, the respectable Zemindars are summoned into court, arrested, put in goal and disgraced. In litigation regarding Zemindaries, the immense value of stamps, and other unnecessary expenses of the civil courts,... are all calculated to impoverish the litigants. Besides this, the coffers of the Zemindars are annually taxed with the subscription for schools, hospitals, roads, etc. Such extortions will have no manner of existence in the Badshahi Government; but on the contrary the *Jumas* will be light, the dignity and honour of the Zemindars safe, and every Zemindar will have absolute rule in his own Zemindary...

Which of the difficulties and miseries of the zamindars have **NOT** been addressed in the Proclamation?

1. Absolute maximising of land tax.
2. Loss of social prestige.
3. Financial burden of the litigation.
4. Backwardness in communication and transportation.

Options :

485584146129. 1
485584146130. 2
485584146131. 3
485584146132. 4

Question Number : 148 Question Id : 48558436533 Question Type : MCQ Option Shuffling : No Is Question Mandatory : No Calculator : None Response Time : N.A Think Time : N.A Minimum Instruction Time : 0

Correct Marks : 5 Wrong Marks : 1

Question Key Details :

Key	Value
Comprehension	Comp2

જમીનદારો વિશે: તે તો સ્પષ્ટ છે કે બ્રિટિશ સરકારે જમીનદારી પ્રથા શરૂ કરીને અતિશય જુમાં (મહેસુલની માંગ) વાધ્યો હતો અને ઘણા જમીન દારો તેમની મિલકતો સાડાની બાકી રકમ માટે જાહેર હરાજી માટે મૂકીને બદનામ અને બરબાદ થયા છે. સામાન્ય રૈયત, નોકરચાકર અથવા ગુલામો દ્વારા દાવો કરવામાં આવે છે. આદરણીય જમીનદારો સ્ટેમ્પનું પુષ્કળ મૂલ્ય છે, અને સિવિલ કોર્ટના અન્ય જરૂરી ખર્ચાઓ... આ બધાની ગણતરી અરજદારોને ગરીબ કરવા માટે કરવામાં આવે છે. આ ઉપરાંત જમીનદારોની તીજોરીઓમાંથી શાળાઓ, હોસ્પિટલો રસ્તાઓ વિગેરેના વવાજમ સાથે વાર્ષિક કર વસુલવામાં આવે વ્યાદશાહી સરકારમાં આવી ગેરવસુલીનું અસ્તીત્વ રહેશે નહિ, પરંતુ તેનાથી ઉલટું જુમાં હળવા હશે, જમીનદારોની પ્રતિષ્ઠા અને માન જળવાશે અને દરેક જમીનદાર પાસે હશે તેની પોતાની જમીનમાં સંપૂર્ણ શાસન...

ઘોષણામાં જમીનદારોની કઈ મુશ્કેલીઓ અને વેદનાઓને સંબોધવામાં આવી નથી.

1. જમીન પરના કરનું સંપૂર્ણ મેકસીમાઈજીંગ
2. સામાજિક પ્રતિષ્ઠા ગુમાવવી
3. મુકદ્દમાઓનો નાણાકીય બોજ
4. સદેશાવ્યવહાર અને પરિવહનમાં પછાતપણું

Options :

485584146129. 1
485584146130. 2
485584146131. 3
485584146132. 4

Question Number : 149 Question Id : 48558436534 Question Type : MCQ Option Shuffling : No Is Question Mandatory : No Calculator : None Response Time : N.A Think Time : N.A Minimum Instruction Time : 0

Correct Marks : 5 Wrong Marks : 1

Question Key Details :

Key	Value
Comprehension	Comp2

Read the passage and answer the questions :

Section I - Regarding Zemindars. It is evident that the British Government in making zemindary settlement have imposed exorbitant *Jumas* (revenue demand) and have disgraced and ruined several Zemindars by putting up their estates for public auction for arrears of rent, in so much, in the institution of a suit by a common Ryot, a maid servant or a slave, the respectable Zemindars are summoned into court, arrested, put in goal and disgraced. In litigation regarding Zemindaries, the immense value of stamps, and other unnecessary expenses of the civil courts,... are all calculated to impoverish the litigants. Besides this, the coffers of the Zemindars are annually taxed with the subscription for schools, hospitals, roads, etc. Such extortions will have no manner of existence in the Badshahi Government; but on the contrary the *Jumas* will be light, the dignity and honour of the Zemindars safe, and every Zemindar will have absolute rule in his own Zemindary...

The alternative rule of 'Badshahi Government' proposed by the rebels in this proclamation refers to

1. The rule of the king of England.
2. The royal nature of the company state.
3. The rule of India's traditional aristocratic class, such as of Bahadur Shah Zafar.
4. The rule established by the rebels based on the ordinary people of India.

Options :

485584146133. 1
485584146134. 2
485584146135. 3
485584146136. 4

Question Number : 149 Question Id : 48558436534 Question Type : MCQ Option Shuffling : No Is Question Mandatory : No Calculator : None Response Time : N.A Think Time : N.A Minimum Instruction Time : 0

Correct Marks : 5 Wrong Marks : 1

Question Key Details :

Key	Value
Comprehension	Comp2

જમીનદારો વિશે: તે તો સ્પષ્ટ છે કે બ્રિટિશ સરકારે જમીનદારી પ્રથા શરૂ કરીને અતિશય જુમાં (મહેસુલની માંગ) લાધ્યો હતો અને ઘણા જમીન દારો તેમની મિલકતો ભાડાની બાકી રકમ માટે જાહેર હરાજી માટે મૂકીને બદનામ અને બરબાદ થયા છે. સામાન્ય રૈયત, નોકરયાકર અથવા ગુલામો દ્વારા દાવો કરવામાં આવે છે, આદરણીય જમીનદારો સ્ટેમ્પનું પુષ્ટકળ મૂલ્ય છે, અને સિવિલ કોર્ટના અન્ય જરૂરી ખર્ચાઓ... આ બધાની ગણતરી અરજદારોને ગરીબ કરવા માટે કરવામાં આવે છે. આ ઉપરાંત જમીનદારોની તીજોરીઓમાંથી શાળાઓ, હોસ્પિટલો રસ્તાઓ વિગેરેના વવાજમ સાથે વાર્ષિક કર વસુલવામાં આવે બાદશાહી સરકારમાં આવી ગેરવસુલીનું અસ્તીત્વ રહેશે નહિ. પરંતુ તેનાથી ઉલટું જુમાં હળવા હશે, જમીનદારોની પ્રતિષ્ઠા અને માન જળવાશે અને દરેક જમીનદાર પાસે હશે તેની પોતાની જમીનમાં સંપૂર્ણ શાસન...

આ ઘોષણામાં બળવાખોરો દ્વારા બાદશાહી સરકારના વૈકલ્પિક શાસનનો ઉલ્લેખ છે તે _____

1. ઈંગ્લેન્ડના રાજાન શાસન
2. કંપનીના રાજ્યનો શાહી સ્વરૂપ
3. ભારતમાં પરંપરાગત કુલીન વર્ગનું શાસન જેમકે બહાદુરશાહ ઝફરનું
4. ભારતના સામાન્ય પ્રજાજનો પર આધારિત બળવાખોરો દ્વારા શાનની સ્થાપના

Options :

485584146133. 1
485584146134. 2
485584146135. 3
485584146136. 4

Question Number : 150 Question Id : 48558436535 Question Type : MCQ Option Shuffling : No Is Question Mandatory : No Calculator : None Response Time : N.A Think Time : N.A Minimum Instruction Time : 0

Correct Marks : 5 Wrong Marks : 1

Question Key Details :

Key	Value
Comprehension	Comp2

Read the passage and answer the questions :

Section I - Regarding Zemindars. It is evident that the British Government in making zemindary settlement have imposed exorbitant *Jumas* (revenue demand) and have disgraced and ruined several Zemindars by putting up their estates for public auction for arrears of rent, in so much, in the institution of a suit by a common Ryot, a maid servant or a slave, the respectable Zemindars are summoned into court, arrested, put in goal and disgraced. In litigation regarding Zemindaries, the immense value of stamps, and other unnecessary expenses of the civil courts,... are all calculated to impoverish the litigants. Besides this, the coffers of the Zemindars are annually taxed with the subscription for schools, hospitals, roads, etc. Such extortions will have no manner of existence in the Badshahi Government; but on the contrary the *Jumas* will be light, the dignity and honour of the Zemindars safe, and every Zemindar will have absolute rule in his own Zemindary...

Loss of zamindari estates and public auction of the same, as mentioned in the Proclamation, was caused by _____.

1. War of succession with the British.
2. Military expedition of the company.
3. New land reserve settlements of the company.
4. Lack of competence and co-ordination on part of the zamindars.

Options :

485584146137. 1
485584146138. 2
485584146139. 3
485584146140. 4

Question Number : 150 Question Id : 48558436535 Question Type : MCQ Option Shuffling : No Is Question Mandatory : No Calculator : None Response Time : N.A Think Time : N.A Minimum Instruction Time : 0 Correct Marks : 5 Wrong Marks : 1

Question Key Details :

Key	Value
Comprehension	Comp2

જમીનદારો વિશે: તે તો સ્પષ્ટ છે કે બ્રિટિશ સરકારે જમીનદારી પ્રથા શરૂ કરીને અતિશય જુમાં (મહેસુલની માંગ) વાધ્યો હતો અને ઘણા જમીન દારો તેમની મિલકતો સાડાની બાકી રકમ માટે જાહેર હરાજી માટે મૂકીને બદનામ અને બરબાદ થયા છે. સામાન્ય રૈયત, નોકરચાકર અથવા ગુલામો દ્વારા દાવો કરવામાં આવે છે, આદરણીય જમીનદારો સ્ટેમ્પનું પુષ્ટકળ મૂલ્ય છે, અને સિવિલ કોર્ટના અન્ય જરૂરી ખર્ચાઓ... આ બધાની ગણતરી અરજદારોને ગરીબ કરવા માટે કરવામાં આવે છે. આ ઉપરાંત જમીનદારોની તીજોરીઓમાંથી શાળાઓ, હોસ્પિટલો રસ્તાઓ વિગેરેના વવાજમ સાથે વાર્ષિક કર વસુલવામાં આવે બાદશાહી સરકારમાં આવી ગેરવસુલીનું અસ્તીત્વ રહેશે નહિ, પરંતુ તેનાથી ઉલટું જુમાં હળવા હશે, જમીનદારોની પ્રતિષ્ઠા અને માન જળવાશે અને દરેક જમીનદાર પાસે હશે તેની પોતાની જમીનમાં સંપૂર્ણ શાસન...

ઘોષણામાં જેનો ઉલ્લેખ થયો છે તે જમીનદાર એસ્ટેટની ખોટ અને તેની જાહેર હરાજી _____ ને કારણે થઈ હતી.

1. અંગ્રેજો સાથે ઉત્તરાધિકારનું યુદ્ધ
2. કંપનીનું લશ્કરી અભિયાન
3. કંપનીની નવી જમીન અનામત વસાહતો
4. જમીનદારોના પક્ષે યોગ્યતા અને સંકલનનો અભાવ

Options :

485584146137. 1
485584146138. 2
485584146139. 3
485584146140. 4

Home Science

Group Number :	5
Group Id :	485584825
Group Maximum Duration :	45
Group Minimum Duration :	45
Show Attended Group? :	No
Edit Attended Group? :	No
Break time :	0
Group Marks :	200
Is this Group for Examiner? :	No
Examiner permission :	Cant View
Show Progress Bar? :	No

Home Science

Section Id : 485584949
Section Number : 1
Section type : Online
Mandatory or Optional : Mandatory
Number of Questions : 50
Number of Questions to be attempted : 40
Section Marks : 200
Enable Mark as Answered Mark for Review and Clear Response : Yes
Maximum Instruction Time : 0
Sub-Section Number : 1
Sub-Section Id : 4855842699
Question Shuffling Allowed : Yes
Is Section Default? : null

Question Number : 151 Question Id : 48558436536 Question Type : MCQ Option Shuffling : No Is Question Mandatory : No Calculator : None Response Time : N.A Think Time : N.A Minimum Instruction Time : 0

Correct Marks : 5 Wrong Marks : 1

Question Key Details :

Key	Value
Comprehension	MCQ

The Persons with Disabilities Act was passed in which year?

1. 1995
2. 1996
3. 2000
4. 1998

Options :

485584146141. 1
485584146142. 2
485584146143. 3
485584146144. 4

Question Number : 151 Question Id : 48558436536 Question Type : MCQ Option Shuffling : No Is Question Mandatory : No Calculator : None Response Time : N.A Think Time : N.A Minimum Instruction Time : 0

Correct Marks : 5 Wrong Marks : 1

Question Key Details :

Key	Value
Comprehension	MCQ

विश्वीयता अधिनियम क्वा वर्षमा पसार करवामा आव्यो छती ?

1. 1995
2. 1996
3. 2000
4. 1998

Options :

- 485584146141. 1
- 485584146142. 2
- 485584146143. 3
- 485584146144. 4

Question Number : 152 Question Id : 48558436537 Question Type : MCQ Option Shuffling : No Is Question Mandatory : No Calculator : None Response Time : N.A Think Time : N.A Minimum Instruction Time : 0

Correct Marks : 5 Wrong Marks : 1

Question Key Details :

Key	Value
Comprehension	MCQ

The causes of disability in children can be grouped into three categories which are:

- A. Factors that impinge on the child during development
- B. Factors due to school education
- C. Factors that affect before birth, both genetic and non-genetic
- D. Factors that affect the child at birth or soon after birth

Choose the correct answer from the options given below:

- 1. A, C and D only
- 2. A, B and C only
- 3. B, C and D only
- 4. A, B and D only

Options :

- 485584146145. 1
- 485584146146. 2
- 485584146147. 3
- 485584146148. 4

Question Number : 152 Question Id : 48558436537 Question Type : MCQ Option Shuffling : No Is Question Mandatory : No Calculator : None Response Time : N.A Think Time : N.A Minimum Instruction Time : 0

Correct Marks : 5 Wrong Marks : 1

Question Key Details :

Key	Value
Comprehension	MCQ

બાળકોમાં વિકલાંગતાના કારણો 3 શ્રેણીમાં વર્ગીકૃત કરવામાં આવ્યો છે જે છે તે.

- A. વિકાસ દરમિયાનના પરિબળો
- B. શાળા શિક્ષણના કારણના પરિબળો
- C. જન્મ પહેલાના આનુવંશિક અને બિન-આનુવંશિક બંને પરિબળો
- D. જન્મ સમયે અની પછીના પરિબળો

નીચે આપેલા વિકલ્પોમાંથી સાચો જવાબ પસંદ કરો.

- 1. ફક્ત A, C અને D
- 2. ફક્ત A, B અને C
- 3. ફક્ત B, C અને D
- 4. ફક્ત A, B અને D

Options :

- 485584146145. 1
- 485584146146. 2
- 485584146147. 3
- 485584146148. 4

Question Number : 153 Question Id : 48558436538 Question Type : MCQ Option Shuffling : No Is Question Mandatory : No Calculator : None Response Time : N.A Think Time : N.A Minimum Instruction Time : 0

Correct Marks : 5 Wrong Marks : 1

Question Key Details :

Key	Value
Comprehension	MCQ

_____ is the basic unit of society which looks after its members.

- 1. School
- 2. Family
- 3. Neighbour
- 4. Friends

Options :

- 485584146149. 1
- 485584146150. 2
- 485584146151. 3
- 485584146152. 4

Question Number : 153 Question Id : 48558436538 Question Type : MCQ Option Shuffling : No Is Question Mandatory : No Calculator : None Response Time : N.A Think Time : N.A Minimum Instruction Time : 0

Correct Marks : 5 Wrong Marks : 1

Question Key Details :

Key	Value
Comprehension	MCQ

નીચે મુજબ સોસાયટીનું મૂળભૂત એકમ છે જે તેના સભ્યોની સંભાળ રાખે છે.

1. શાળા
2. કુટુંબ
3. પડોશીઓ
4. મિત્રો

Options :

485584146149. 1
485584146150. 2
485584146151. 3
485584146152. 4

Question Number : 154 Question Id : 48558436539 Question Type : MCQ Option Shuffling : No Is Question Mandatory : No Calculator : None Response Time : N.A Think Time : N.A Minimum Instruction Time : 0

Correct Marks : 5 Wrong Marks : 1

Question Key Details :

Key	Value
Comprehension	MCQ

In India, a senior citizen is a person belonging to which of the following age group?

1. 65 years and above
2. 60 years and above
3. 70 years and above
4. 80 years and above

Options :

485584146153. 1
485584146154. 2
485584146155. 3
485584146156. 4

Question Number : 154 Question Id : 48558436539 Question Type : MCQ Option Shuffling : No Is Question Mandatory : No Calculator : None Response Time : N.A Think Time : N.A Minimum Instruction Time : 0

Correct Marks : 5 Wrong Marks : 1

Question Key Details :

Key	Value
Comprehension	MCQ

નીચે આપેલ માંથી કયાં સમૂહના લોકો નો વરિષ્ઠ નાગરીક ના સમૂહ વયમાં સમાવેશ થાય છે ?

1. 65 વર્ષ અને તેથી ઉપરના
2. 60 વર્ષ અને તેથી ઉપરના
3. 70 વર્ષ અને તેથી ઉપરના
4. 80 વર્ષ અને તેથી ઉપરના

Options :

485584146153. 1
485584146154. 2
485584146155. 3
485584146156. 4

Question Number : 155 Question Id : 48558436540 Question Type : MCQ Option Shuffling : No Is Question Mandatory : No Calculator : None Response Time : N.A Think Time : N.A Minimum Instruction Time : 0

Correct Marks : 5 Wrong Marks : 1

Question Key Details :

Key	Value
Comprehension	MCQ

In which year, Ministry of Youth Affairs and Sports adopted the National Youth Policy?

1. 2005
2. 2003
3. 2004
4. 2010

Options :

485584146157. 1
485584146158. 2
485584146159. 3
485584146160. 4

Question Number : 155 Question Id : 48558436540 Question Type : MCQ Option Shuffling : No Is Question Mandatory : No Calculator : None Response Time : N.A Think Time : N.A Minimum Instruction Time : 0

Correct Marks : 5 Wrong Marks : 1

Question Key Details :

Key	Value
Comprehension	MCQ

યુવા બાબતી અને સ્મતગમત મંત્રાલયે કયા વર્ષમાં રાષ્ટ્રીય યુવા નીતી અપનાવી ?

1. 2005
2. 2003
3. 2004
4. 2010

Options :

485584146157. 1
485584146158. 2
485584146159. 3
485584146160. 4

Question Number : 156 Question Id : 48558436541 Question Type : MCQ Option Shuffling : No Is Question Mandatory : No Calculator : None Response Time : N.A Think Time : N.A Minimum Instruction Time : 0

Correct Marks : 5 Wrong Marks : 1

Question Key Details :

Key	Value
Comprehension	MCQ

Name the psychologist who outlined the great need that children have for a concerned, caring and knowledgeable adult.

1. Piaget
2. Freud
3. Vygotsky
4. Bruner

Options :

485584146161. 1
485584146162. 2
485584146163. 3
485584146164. 4

Question Number : 156 Question Id : 48558436541 Question Type : MCQ Option Shuffling : No Is Question Mandatory : No Calculator : None Response Time : N.A Think Time : N.A Minimum Instruction Time : 0

Correct Marks : 5 Wrong Marks : 1

Question Key Details :

Key	Value
Comprehension	MCQ

સાચકોલોજીસ્ટ કે જેઓ જાણકાર પુખ્ત વયના બાલકો માટે મોટી જરૂરીયાતની રુપરેખા આપે છે તે

1. Piaget
2. Freud
3. Vygotsky
4. Bruner

Options :

485584146161. 1
485584146162. 2
485584146163. 3
485584146164. 4

Question Number : 157 Question Id : 48558436542 Question Type : MCQ Option Shuffling : No Is Question Mandatory : No Calculator : None Response Time : N.A Think Time : N.A Minimum Instruction Time : 0

Correct Marks : 5 Wrong Marks : 1

Question Key Details :

Key	Value
Comprehension	MCQ

Identify the given standardisation mark.



1. ISI
2. FPO
3. AGMARK
4. Hallmark

Options :

485584146165. 1
485584146166. 2
485584146167. 3
485584146168. 4

Question Number : 157 Question Id : 48558436542 Question Type : MCQ Option Shuffling : No Is Question Mandatory : No Calculator : None Response Time : N.A Think Time : N.A Minimum Instruction Time : 0

Correct Marks : 5 Wrong Marks : 1

Question Key Details :

Key	Value
Comprehension	MCQ

आपेल प्रमाणाभूत चिह्न ने ओणधो.



1. ISI
2. FPO
3. AGMARK
4. Hallmark

Options :

- 485584146165. 1
- 485584146166. 2
- 485584146167. 3
- 485584146168. 4

Question Number : 158 Question Id : 48558436543 Question Type : MCQ Option Shuffling : No Is Question Mandatory : No Calculator : None Response Time : N.A Think Time : N.A Minimum Instruction Time : 0

Correct Marks : 5 Wrong Marks : 1

Question Key Details :

Key	Value
Comprehension	MCQ

A process through which buyer makes decisions about purchasing is known as _____.

1. Consumer behaviour
2. Consumer right
3. Consumer footfall
4. Consumer expectation

Options :

- 485584146169. 1
- 485584146170. 2
- 485584146171. 3
- 485584146172. 4

Question Number : 158 Question Id : 48558436543 Question Type : MCQ Option Shuffling : No Is Question Mandatory :
No Calculator : None Response Time : N.A Think Time : N.A Minimum Instruction Time : 0
Correct Marks : 5 Wrong Marks : 1
Question Key Details :

Key	Value
Comprehension	MCQ

એક પ્રક્રિયા કે જેના દ્વારા ખદીદદાર ખરીદી અંગે નિર્ણય લે છે તેને કહેવામાં આવે છે તે.

1. ગ્રાહકનું વર્તન
2. ગ્રાહકનો અધિકાર
3. ગ્રાહકનો ફૂટબોલ
4. ગ્રાહકની અપેક્ષાઓ

Options :

- 485584146169. 1
- 485584146170. 2
- 485584146171. 3
- 485584146172. 4

Question Number : 159 Question Id : 48558436544 Question Type : MCQ Option Shuffling : No Is Question Mandatory :
No Calculator : None Response Time : N.A Think Time : N.A Minimum Instruction Time : 0
Correct Marks : 5 Wrong Marks : 1
Question Key Details :

Key	Value
Comprehension	MCQ

Which of the following is a tool to empower and equip consumers to protect themselves from adverse market forces ?

1. Consumer education
2. Consumer problems
3. Consumer behaviour
4. Consumer responsibility

Options :

- 485584146173. 1
- 485584146174. 2
- 485584146175. 3
- 485584146176. 4

Question Number : 159 Question Id : 48558436544 Question Type : MCQ Option Shuffling : No Is Question Mandatory :
No Calculator : None Response Time : N.A Think Time : N.A Minimum Instruction Time : 0
Correct Marks : 5 Wrong Marks : 1
Question Key Details :

Key	Value
-----	-------

નીચેમાંથી કયું સાધન પ્રતિકૂળ બજાર શક્તિઓથી પોતાને બચાવવા માટે ગ્રાહકોને સશક્તિકરણ અને સજ્જ કરવાનું સાધન છે ?

1. ગ્રાહકની સાક્ષરતા
2. ગ્રાહકની સમસ્યાઓ
3. ગ્રાહકનું વર્તુલિક
4. ગ્રાહકની જવાબદારી

Options :

485584146173. 1
485584146174. 2
485584146175. 3
485584146176. 4

Question Number : 160 Question Id : 48558436545 Question Type : MCQ Option Shuffling : No Is Question Mandatory : No Calculator : None Response Time : N.A Think Time : N.A Minimum Instruction Time : 0

Correct Marks : 5 Wrong Marks : 1

Question Key Details :

Key	Value
Comprehension	MCQ

What is the other name for short lived fashion?

1. Fad
2. Classic
3. Style
4. Design

Options :

485584146177. 1
485584146178. 2
485584146179. 3
485584146180. 4

Question Number : 160 Question Id : 48558436545 Question Type : MCQ Option Shuffling : No Is Question Mandatory : No Calculator : None Response Time : N.A Think Time : N.A Minimum Instruction Time : 0

Correct Marks : 5 Wrong Marks : 1

Question Key Details :

Key	Value
Comprehension	MCQ

અલ્પજીવી ફેશનનું બીજું નામ આપો ?

1. દેવહું (Fad)
2. ક્વાસિક
3. શૈલી
4. ફેશન

Options :

485584146177. 1
485584146178. 2
485584146179. 3
485584146180. 4

Question Number : 161 Question Id : 48558436546 Question Type : MCQ Option Shuffling : No Is Question Mandatory : No Calculator : None Response Time : N.A Think Time : N.A Minimum Instruction Time : 0

Correct Marks : 5 Wrong Marks : 1

Question Key Details :

Key	Value
Comprehension	MCQ

You have to purchase a dress for your sister who is tall and slim. Inclusion of which of the following will be appropriate for her?

1. Vertical lines
2. Horizontal lines
3. Dark colours
4. High waist bodice

Options :

485584146181. 1
485584146182. 2
485584146183. 3
485584146184. 4

Question Number : 161 Question Id : 48558436546 Question Type : MCQ Option Shuffling : No Is Question Mandatory : No Calculator : None Response Time : N.A Think Time : N.A Minimum Instruction Time : 0

Correct Marks : 5 Wrong Marks : 1

Question Key Details :

Key	Value
Comprehension	MCQ

તમે તમારી બહેન જે લાંબી અને પાતળી છે તેમની માટે વસ્ત્ર ખરીદી રહ્યા છે નીચે આપેલામાંથી કયું તેના માટે યોગ્ય છે ?

1. ઉભી લીટીઓ
2. આડી લીટીઓ
3. શ્યામ રંગો
4. ઊંચી કમર વાળું

Options :

485584146181. 1
485584146182. 2
485584146183. 3
485584146184. 4

Question Number : 162 Question Id : 48558436547 Question Type : MCQ Option Shuffling : No Is Question Mandatory : No Calculator : None Response Time : N.A Think Time : N.A Minimum Instruction Time : 0

Correct Marks : 5 Wrong Marks : 1

Question Key Details :

Key	Value
Comprehension	MCQ

_____ ability requires a thorough knowledge of past future trends and current future trends.

1. Analytical
2. Forecasting
3. Communication
4. Technical

Options :

485584146185. 1
485584146186. 2
485584146187. 3
485584146188. 4

Question Number : 162 Question Id : 48558436547 Question Type : MCQ Option Shuffling : No Is Question Mandatory : No Calculator : None Response Time : N.A Think Time : N.A Minimum Instruction Time : 0

Correct Marks : 5 Wrong Marks : 1

Question Key Details :

Key	Value
Comprehension	MCQ

_____ ક્ષમતાનો અર્થ થાય છે સવિષ્યના ફેશન વલણો જણાવવા

1. વિશ્લેષણાત્મક
2. આગાહી
3. સંચાર
4. તકનીકી

Options :

485584146185. 1
485584146186. 2
485584146187. 3
485584146188. 4

Question Number : 163 Question Id : 48558436548 Question Type : MCQ Option Shuffling : No Is Question Mandatory : No Calculator : None Response Time : N.A Think Time : N.A Minimum Instruction Time : 0

Correct Marks : 5 Wrong Marks : 1

Question Key Details :

Key	Value
Comprehension	MCQ

_____ is the important phase in wash cycle. If it is not done properly, clothes may look grey, dull with harsh texture.

1. Water extraction
2. Rinsing
3. Drying
4. Pressing

Options :

485584146189. 1
485584146190. 2
485584146191. 3
485584146192. 4

Question Number : 163 Question Id : 48558436548 Question Type : MCQ Option Shuffling : No Is Question Mandatory : No Calculator : None Response Time : N.A Think Time : N.A Minimum Instruction Time : 0

Correct Marks : 5 Wrong Marks : 1

Question Key Details :

Key	Value
Comprehension	MCQ

એ ધોવાણના ચક્રમાં મહત્વનો તબક્કો છે. જો તે બરાબર કરવામાં ન આવ્યું તો કપડાં ભૂખરા અને મેલા દેખાશે.

1. પાણી કાઢવું
2. વિછળવું
3. ચૂકવણી કરવી
4. નિયોજવું

Options :

485584146189. 1
485584146190. 2
485584146191. 3
485584146192. 4

Question Number : 164 Question Id : 48558436549 Question Type : MCQ Option Shuffling : No Is Question Mandatory : No Calculator : None Response Time : N.A Think Time : N.A Minimum Instruction Time : 0

Correct Marks : 5 Wrong Marks : 1

Question Key Details :

Key	Value
Comprehension	MCQ

Which of the following colour scheme refers to a colour combination using two or three hues that lie side by side on the colour wheel?

1. Achromatic harmony
2. Accented neutral
3. Analogous harmony
4. Complementary harmony

Options :

485584146193. 1
485584146194. 2
485584146195. 3
485584146196. 4

Question Number : 164 Question Id : 48558436549 Question Type : MCQ Option Shuffling : No Is Question Mandatory : No Calculator : None Response Time : N.A Think Time : N.A Minimum Instruction Time : 0

Correct Marks : 5 Wrong Marks : 1

Question Key Details :

Key	Value
Comprehension	MCQ

બે કે ત્રણ રંગછટાનો ઉપયોગ કરીને રંગ સંયોજનનો ઉલ્લેખ કરે છે જે કલર વ્હીલ પર બાજુ માં હોય છે.

1. વર્ણહીન
2. સાવ તટસ્થ
3. સમાન મિલાવટ
4. પૂરક મિલાવટ

Options :

485584146193. 1
485584146194. 2
485584146195. 3
485584146196. 4

Question Number : 165 Question Id : 48558436550 Question Type : MCQ Option Shuffling : No Is Question Mandatory : No Calculator : None Response Time : N.A Think Time : N.A Minimum Instruction Time : 0

Correct Marks : 5 Wrong Marks : 1

Question Key Details :

Key	Value
Comprehension	MCQ

The term "Development Communication" was first coined by Quebral in which year?

1. 1969
2. 1970
3. 1972
4. 1974

Options :

485584146197. 1
485584146198. 2
485584146199. 3
485584146200. 4

Question Number : 165 Question Id : 48558436550 Question Type : MCQ Option Shuffling : No Is Question Mandatory : No Calculator : None Response Time : N.A Think Time : N.A Minimum Instruction Time : 0

Correct Marks : 5 Wrong Marks : 1

Question Key Details :

Key	Value
Comprehension	MCQ

"डेवपमेन्ट ओभ्युनिडेशन" शब्द सौप्रथम क्वेअर द्दारा कया वर्षमा बनाववामा आव्यो हती?

1. 1969
2. 1970
3. 1972
4. 1974

Options :

485584146197. 1
485584146198. 2
485584146199. 3
485584146200. 4

Question Number : 166 Question Id : 48558436551 Question Type : MCQ Option Shuffling : No Is Question Mandatory : No Calculator : None Response Time : N.A Think Time : N.A Minimum Instruction Time : 0

Correct Marks : 5 Wrong Marks : 1

Question Key Details :

Key	Value
Comprehension	MCQ

To create focused attention on a small village in Delhi, the Project village Chattera was started in 1969. Which newspaper was involved in this project?

1. The Times of India
2. The Hindustan Times
3. Navbharat times
4. The Hindu

Options :

485584146201. 1
485584146202. 2
485584146203. 3
485584146204. 4

Question Number : 166 Question Id : 48558436551 Question Type : MCQ Option Shuffling : No Is Question Mandatory : No Calculator : None Response Time : N.A Think Time : N.A Minimum Instruction Time : 0

Correct Marks : 5 Wrong Marks : 1

Question Key Details :

Key	Value
Comprehension	MCQ

1969 દિલ્હીના એક નાના ગામ પર ધ્યાન દોરવાં માટે ચંદેરા ગ્રામ પરીયોજના ને શરુ કરવામાં આવી હતી. આ યોજનામાં કયું સમાચાર પત્ર સંકળાયેલ હતું ?

1. The Times of India
2. The Hindustan Times
3. Navbharat times
4. The Hindu

Options :

485584146201. 1
485584146202. 2
485584146203. 3
485584146204. 4

Question Number : 167 Question Id : 48558436552 Question Type : MCQ Option Shuffling : No Is Question Mandatory : No Calculator : None Response Time : N.A Think Time : N.A Minimum Instruction Time : 0

Correct Marks : 5 Wrong Marks : 1

Question Key Details :

Key	Value
Comprehension	MCQ

In which of the following disease condition, low fibre diet is recommended?

1. Dianhoea
2. Constipation
3. Diabetes
4. Heart disease

Options :

485584146205. 1
485584146206. 2
485584146207. 3
485584146208. 4

Question Number : 167 Question Id : 48558436552 Question Type : MCQ Option Shuffling : No Is Question Mandatory : No Calculator : None Response Time : N.A Think Time : N.A Minimum Instruction Time : 0

Correct Marks : 5 Wrong Marks : 1

Question Key Details :

Key	Value
Comprehension	MCQ

આમાં ઓછા ફાઈબર વાળા ખોરાકની આગ્રહ કરવામાં આવે છે.

1. ઝાડા
2. કબજિયાત
3. ડાયાબિટીસ
4. હૃદય રોગ

Options :

485584146205. 1
485584146206. 2
485584146207. 3
485584146208. 4

Question Number : 168 Question Id : 48558436553 Question Type : MCQ Option Shuffling : No Is Question Mandatory : No Calculator : None Response Time : N.A Think Time : N.A Minimum Instruction Time : 0

Correct Marks : 5 Wrong Marks : 1

Question Key Details :

Key	Value
Comprehension	MCQ

Which of the following is a welfare catering service ?

1. Holiday camps
2. Langar
3. Clubs
4. Flight kitchens

Options :

485584146209. 1
485584146210. 2
485584146211. 3
485584146212. 4

Question Number : 168 Question Id : 48558436553 Question Type : MCQ Option Shuffling : No Is Question Mandatory : No Calculator : None Response Time : N.A Think Time : N.A Minimum Instruction Time : 0

Correct Marks : 5 Wrong Marks : 1

Question Key Details :

Key	Value
Comprehension	MCQ

નીચે આપેલા માંથી કઈ કલ્યાણ કરી સેવા છે ?

1. રજા શિબિરો
2. ઔદ્યોગિક કેન્ટીન
3. ક્લબ્બો
4. મોબાઈલ કેન્ટીન

Options :

485584146209. 1
485584146210. 2
485584146211. 3
485584146212. 4

Question Number : 169 Question Id : 48558436554 Question Type : MCQ Option Shuffling : No Is Question Mandatory : No Calculator : None Response Time : N.A Think Time : N.A Minimum Instruction Time : 0

Correct Marks : 5 Wrong Marks : 1

Question Key Details :

Key	Value
Comprehension	MCQ

Which of these is NOT a feature of GMP (Good Manufacturing Practice)?

1. Minimise false labelling
2. Consumer education
3. Eliminate contamination
4. Mislead consumer

Options :

485584146213. 1
485584146214. 2
485584146215. 3
485584146216. 4

Question Number : 169 Question Id : 48558436554 Question Type : MCQ Option Shuffling : No Is Question Mandatory : No Calculator : None Response Time : N.A Think Time : N.A Minimum Instruction Time : 0

Correct Marks : 5 Wrong Marks : 1

Question Key Details :

Key	Value
Comprehension	MCQ

નીચે આપેલા માંથી કઈ GMP (Good Manufacturing Practice) ની વાક્યસૂચકતા નથી ?

1. ખોટા વેબલીંગને ઓછા કરવાં
2. ગ્રાહકની સાક્ષરતા
3. સેનસેનને દૂર કરવું
4. ગ્રાહકને ભ્રમીત કરવાં

Options :

485584146213. 1
485584146214. 2
485584146215. 3
485584146216. 4

Question Number : 170 Question Id : 48558436555 Question Type : MCQ Option Shuffling : No Is Question Mandatory : No Calculator : None Response Time : N.A Think Time : N.A Minimum Instruction Time : 0

Correct Marks : 5 Wrong Marks : 1

Question Key Details :

Key	Value
Comprehension	MCQ

In the context of food standards regulations, which of the following is an international reference for quality management of an organisation?

1. ISO 6000
2. ISO 7000
3. ISO 8000
4. ISO 9000

Options :

485584146217. 1
485584146218. 2
485584146219. 3
485584146220. 4

Question Number : 170 Question Id : 48558436555 Question Type : MCQ Option Shuffling : No Is Question Mandatory : No Calculator : None Response Time : N.A Think Time : N.A Minimum Instruction Time : 0

Correct Marks : 5 Wrong Marks : 1

Question Key Details :

Key	Value
Comprehension	MCQ

નીચેના માંથી કયો સંસ્થાના ગુણવત્તા વ્યવસ્થાપન માટે ખાધ ધોરણના નિયમોનોના સંદર્ભમાં આંતરરાષ્ટ્રીય સંદર્ભ છે ?

1. ISO 6000
2. ISO 7000
3. ISO 8000
4. ISO 9000

Options :

485584146217. 1
485584146218. 2
485584146219. 3
485584146220. 4

Question Number : 171 Question Id : 48558436556 Question Type : MCQ Option Shuffling : No Is Question Mandatory : No Calculator : None Response Time : N.A Think Time : N.A Minimum Instruction Time : 0

Correct Marks : 5 Wrong Marks : 1

Question Key Details :

Key	Value
Comprehension	MCQ

In the context of food safety, intentional or accidental addition of impure ingredients that alters the properties and diminishes the quality of food is known as _____.

1. Contamination
2. Toxicity
3. Adulteration
4. Hazard

Options :

485584146221. 1
485584146222. 2
485584146223. 3
485584146224. 4

Question Number : 171 Question Id : 48558436556 Question Type : MCQ Option Shuffling : No Is Question Mandatory : No Calculator : None Response Time : N.A Think Time : N.A Minimum Instruction Time : 0

Correct Marks : 5 Wrong Marks : 1

Question Key Details :

Key	Value
Comprehension	MCQ

ખાદ્ય સુરક્ષાના સંદર્ભમાં અશુદ્ધ ઘટકનો ઇરાદાપૂર્વક અથવા આકસ્મિક ઉમેરો જે ગુણ ધર્મોમાં ફેરફાર કરે છે તેને _____ તરીકે ઓળખવામાં આવે છે.

1. દુષણ
2. વિષાણતા
3. ભેજસેજ (મિલાવટ)
4. જોખમી

Options :

485584146221. 1
485584146222. 2
485584146223. 3
485584146224. 4

Question Number : 172 Question Id : 48558436557 Question Type : MCQ Option Shuffling : No Is Question Mandatory : No Calculator : None Response Time : N.A Think Time : N.A Minimum Instruction Time : 0

Correct Marks : 5 Wrong Marks : 1

Question Key Details :

Key	Value
Comprehension	MCQ

Fortification as an intervention is used under which of the following strategies to combat public nutrition problems ?

1. Nutrient based strategy
2. Medicinal strategy
3. Diet based strategy
4. Supplement based strategy

Options :

485584146225. 1
485584146226. 2
485584146227. 3
485584146228. 4

Question Number : 172 Question Id : 48558436557 Question Type : MCQ Option Shuffling : No Is Question Mandatory : No Calculator : None Response Time : N.A Think Time : N.A Minimum Instruction Time : 0

Correct Marks : 5 Wrong Marks : 1

Question Key Details :

Key	Value
Comprehension	MCQ

કોર્ટાઈકિશન એક હસ્તક્ષેપ તરીકે જાહેર પોષણની સમસ્યાઓ દુર કરવામાં ઉપયોગ કરવામાં આવે છે નીચે આપેલ કઈ વ્યુહરચના હેઠળ તે થાય છે ?

1. પોષણ આધારીત વ્યુહરચના
2. તબીબી આધારીત વ્યુહરચના
3. ખોરાક આધારીત વ્યુહરચના
4. પૂરક ખોરાક આધારીત વ્યુહરચના

Options :

485584146225. 1
485584146226. 2
485584146227. 3
485584146228. 4

Question Number : 173 Question Id : 48558436558 Question Type : MCQ Option Shuffling : No Is Question Mandatory : No Calculator : None Response Time : N.A Think Time : N.A Minimum Instruction Time : 0

Correct Marks : 5 Wrong Marks : 1

Question Key Details :

Key	Value
Comprehension	MCQ

Which of the following is referred to as "Hidden Hunger" in the context of nutritional problems?

1. Micronutrient deficiencies
2. Malnutrition
3. Stunting
4. Wasting

Options :

485584146229. 1
485584146230. 2
485584146231. 3
485584146232. 4

Question Number : 173 Question Id : 48558436558 Question Type : MCQ Option Shuffling : No Is Question Mandatory : No Calculator : None Response Time : N.A Think Time : N.A Minimum Instruction Time : 0

Correct Marks : 5 Wrong Marks : 1

Question Key Details :

Key	Value
Comprehension	MCQ

નીચે આપેલ માંથી પોષક સમસ્યાનાં સંબંધ માં "Hidden Hunger" કહેવામાં આવે છે ?

1. સુક્ષ્મ પોષક તત્વોની ઉણપ
2. કુપોષણ
3. આયોડીનની ઉણપનો રોગ
4. પ્રોટીન ઊર્જા કુપોષણ

Options :

485584146229. 1
485584146230. 2
485584146231. 3
485584146232. 4

Question Number : 174 Question Id : 48558436559 Question Type : MCQ Option Shuffling : No Is Question Mandatory : No Calculator : None Response Time : N.A Think Time : N.A Minimum Instruction Time : 0

Correct Marks : 5 Wrong Marks : 1

Question Key Details :

Key	Value
Comprehension	MCQ

Which of the following government body framed the National Nutrition Policy (NNP) of India in the year 1993?

1. Department of Women and Child Development
2. Ministry of Health and Family Welfare
3. Department of Science and Technology
4. Ministry of Consumer Affairs

Options :

485584146233. 1
485584146234. 2
485584146235. 3
485584146236. 4

Question Number : 174 Question Id : 48558436559 Question Type : MCQ Option Shuffling : No Is Question Mandatory : No Calculator : None Response Time : N.A Think Time : N.A Minimum Instruction Time : 0

Correct Marks : 5 Wrong Marks : 1

Question Key Details :

Key	Value
Comprehension	MCQ

1993 ମା ଓଡ଼ିଶା ସରକାରୀ ଜାତୀୟ ଖାଦ୍ୟ ନୀତି (NNP) ଉପରେ କେଉଁ ଦାମ ?

1. Department of Women and Child Development
2. Ministry of Health and Family Welfare
3. Department of Science and Technology
4. Ministry of Consumer Affairs

Options :

485584146233. 1
485584146234. 2
485584146235. 3
485584146236. 4

Question Number : 175 Question Id : 48558436560 Question Type : MCQ Option Shuffling : No Is Question Mandatory : No Calculator : None Response Time : N.A Think Time : N.A Minimum Instruction Time : 0

Correct Marks : 5 Wrong Marks : 1

Question Key Details :

Key	Value
Comprehension	MCQ

Arrange the organizational structure / hierarchy followed by housekeeping department from top to bottom.

- A. Assistant housekeeper
- B. Room attendant
- C. Executive housekeeper
- D. Housemen
- E. Floor supervisor

Choose the correct answer from the options given below:

1. A, B, C, D, E
2. C, A, E, D, B
3. A, C, E, B, D
4. C, A, E, B, D

Options :

485584146237. 1
485584146238. 2
485584146239. 3
485584146240. 4

Question Number : 175 Question Id : 48558436560 Question Type : MCQ Option Shuffling : No Is Question Mandatory : No Calculator : None Response Time : N.A Think Time : N.A Minimum Instruction Time : 0

Correct Marks : 5 Wrong Marks : 1

Question Key Details :

Key	Value
Comprehension	MCQ

સામાન્ય રીતે ઉપરથી નીચે સુધી હાઉસ કીપિંગ વિભાગ દ્વારા અનુસરવામાં આવેલ સંસ્થાકીય માળખું / પદાનુક્રમ ગોઠવો.

- A. સહાયક હાઉસકીપર
- B. રૂમ સેવક
- C. કાર્યપાલ (એક્ઝ્યુક્યુટીવ) હાઉસકીપર
- D. હાઉસમેન
- E. માળ (ફ્લોર) સુપરવાઈઝર

નીચે આપેલા વિકલ્પોમાંથી સાચો જવાબ પસંદ કરો.

- 1. A, B, C, D, E
- 2. C, A, E, D, B
- 3. A, C, E, B, D
- 4. C, A, E, B, D

Options :

- 485584146237. 1
- 485584146238. 2
- 485584146239. 3
- 485584146240. 4

Question Number : 176 Question Id : 48558436561 Question Type : MCQ Option Shuffling : No Is Question Mandatory : No Calculator : None Response Time : N.A Think Time : N.A Minimum Instruction Time : 0

Correct Marks : 5 Wrong Marks : 1

Question Key Details :

Key	Value
Comprehension	MCQ

Give the correct sequence of different stages of apparel production.

- A. Finishing and packaging
- B. Procurement and inspection of raw material
- C. Laying and cutting of fabric / material
- D. Assembly of the product

Choose the correct answer from the options given below:

- 1. A, B, C, D
- 2. B, A, C, D
- 3. D, A, B, C
- 4. B, C, D, A

Options :

- 485584146241. 1
- 485584146242. 2
- 485584146243. 3

485584146244. 4

Question Number : 176 Question Id : 48558436561 Question Type : MCQ Option Shuffling : No Is Question Mandatory : No Calculator : None Response Time : N.A Think Time : N.A Minimum Instruction Time : 0

Correct Marks : 5 Wrong Marks : 1

Question Key Details :

Key	Value
Comprehension	MCQ

વસ ઉત્પાદનના જુદા જુદા તબક્કાઓ સાચી શ્રેણીમાં (ક્રમમાં) આપો.

- A. ફિનીશીંગ અને પેકજિંગ
- B. કાચા માલ (વસ્તુ) ની પ્રાપ્તિ અને નિરિક્ષણ
- C. કાપડ / વસ્તુ ને પાથરવું (લેઈંગ) અને કાપવું (કટીંગ)
- D. ઉત્પાદનો (પ્રોટક્ટ) ની એસેમ્બલી

નીચે આપેલા વિકલ્પોમાંથી સાચો જવાબ પસંદ કરો.

- 1. A, B, C, D
- 2. B, A, C, D
- 3. D, A, B, C
- 4. B, C, D, A

Options :

- 485584146241. 1
- 485584146242. 2
- 485584146243. 3
- 485584146244. 4

Question Number : 177 Question Id : 48558436562 Question Type : MCQ Option Shuffling : No Is Question Mandatory : No Calculator : None Response Time : N.A Think Time : N.A Minimum Instruction Time : 0

Correct Marks : 5 Wrong Marks : 1

Question Key Details :

Key	Value
Comprehension	MCQ

Arrange the given steps of nutritional care during illness in the correct sequence.

- A. Assessing nutritional status
- B. Planning and prioritising nutrition intervention(s)
- C. Diagnosis of nutritional problems
- D. Making changes in the nutritional care outcomes, if necessary
- E. Evaluating nutritional care outcomes

Choose the correct answer from the options given below:

- 1. C, B, A, D, E
- 2. C, E, B, A, D
- 3. A, C, B, E, D
- 4. A, C, B, D, E

Options :

- 485584146245. 1
- 485584146246. 2
- 485584146247. 3
- 485584146248. 4

Question Number : 177 Question Id : 48558436562 Question Type : MCQ Option Shuffling : No Is Question Mandatory : No Calculator : None Response Time : N.A Think Time : N.A Minimum Instruction Time : 0

Correct Marks : 5 Wrong Marks : 1

Question Key Details :

Key	Value
Comprehension	MCQ

પોષ્ટિક સંભાળના આપેલ તબક્કાઓને સાચા ક્રમમાં (શ્રેણીમાં) ગોઠવો.

- A. પોષણની સ્થિતીનું મૂલ્યાંકન
- B. પોષક હસ્તક્ષેપોનું આયોજન અને પ્રાથમિકતા
- C. સમસ્યાનું નિદાન
- D. જો જરૂર હોય તો ફેરફાર કરવા
- E. પોષ્ટિક સંભાળ પરિણામોનું મૂલ્યાંકન

નીચે આપેલા વિકલ્પોમાંથી સાચો જવાબ પસંદ કરો.

- 1. C, B, A, D, E
- 2. C, E, B, A, D
- 3. A, C, B, E, D
- 4. A, C, B, D, E

Options :

- 485584146245. 1
- 485584146246. 2
- 485584146247. 3

485584146248. 4

Question Number : 178 Question Id : 48558436563 Question Type : MCQ Option Shuffling : No Is Question Mandatory : No Calculator : None Response Time : N.A Think Time : N.A Minimum Instruction Time : 0

Correct Marks : 5 Wrong Marks : 1

Question Key Details :

Key	Value
Comprehension	MCQ

Which of the following is NOT a department/sector in hospitality industry?

1. Recruitment and staffing
2. Entertainment and recreation
3. Accommodation or front office
4. Food and beverage service

Options :

485584146249. 1
485584146250. 2
485584146251. 3
485584146252. 4

Question Number : 178 Question Id : 48558436563 Question Type : MCQ Option Shuffling : No Is Question Mandatory : No Calculator : None Response Time : N.A Think Time : N.A Minimum Instruction Time : 0

Correct Marks : 5 Wrong Marks : 1

Question Key Details :

Key	Value
Comprehension	MCQ

નીચેનામાંથી કયો હોસ્પિટાલિટી ઉદ્યોગમાં વિભાગ/ક્ષેત્ર નથી?

1. ભરતી અને સ્ટાફિંગ
2. મનોરંજન અને મનોરંજન
3. આવાસ અથવા ફ્રન્ટ ઓફિસ
4. ખોરાક અને પીણા સેવા

Options :

485584146249. 1
485584146250. 2
485584146251. 3
485584146252. 4

Question Number : 179 Question Id : 48558436564 Question Type : MCQ Option Shuffling : No Is Question Mandatory : No Calculator : None Response Time : N.A Think Time : N.A Minimum Instruction Time : 0

Correct Marks : 5 Wrong Marks : 1

Question Key Details :

Key	Value
Comprehension	MCQ

Which of the following falls under the category of rewards given to sustain high performance employees in an organisation ?

- A. Paid holidays
- B. Tax incentives
- C. Financial packages for children's education
- D. Financial compensation like driver's wages
- E. Disability insurance

Choose the correct answer from the options given below:

- 1. A, C and E only
- 2. A, C and D only
- 3. A, D and E only
- 4. B, C and D only

Options :

- 485584146253. 1
- 485584146254. 2
- 485584146255. 3
- 485584146256. 4

Question Number : 179 Question Id : 48558436564 Question Type : MCQ Option Shuffling : No Is Question Mandatory : No Calculator : None Response Time : N.A Think Time : N.A Minimum Instruction Time : 0

Correct Marks : 5 Wrong Marks : 1

Question Key Details :

Key	Value
Comprehension	MCQ

સંસ્થામાં ઉચ્ચ પ્રદર્શન કર્મચારીઓને ટકાવી રાખવા માટે આપવામાં આવતા પુરસ્કારોની શ્રેણીમાં નીચેનામાંથી કયું આવશે ?

- A. ચૂકવેલ રજાઓ
- B. કર પ્રોત્સાહનો
- C. બાળકોના શિક્ષણ માટે નાણાકીય પેકેજો
- D. ડ્રાઈવરના વેતન માટે નાણાકીય વળતર
- E. અપંગતા વીમો

નીચે આપેલા વિકલ્પોમાંથી સાચો જવાબ પસંદ કરો.

- 1. ફક્ત A, C અને E
- 2. ફક્ત A, C અને D
- 3. ફક્ત A, D અને E
- 4. ફક્ત B, C અને D

Options :

- 485584146253. 1
- 485584146254. 2
- 485584146255. 3
- 485584146256. 4

Question Number : 180 Question Id : 48558436565 Question Type : MCQ Option Shuffling : No Is Question Mandatory : No Calculator : None Response Time : N.A Think Time : N.A Minimum Instruction Time : 0

Correct Marks : 5 Wrong Marks : 1

Question Key Details :

Key	Value
Comprehension	MCQ

Which of the following is NOT a function of human resources/talent management?

- 1. Marketing management
- 2. Getting the best employees
- 3. Retention and redressal
- 4. Training and developing employees

Options :

- 485584146257. 1
- 485584146258. 2
- 485584146259. 3
- 485584146260. 4

Question Number : 180 Question Id : 48558436565 Question Type : MCQ Option Shuffling : No Is Question Mandatory : No Calculator : None Response Time : N.A Think Time : N.A Minimum Instruction Time : 0

Correct Marks : 5 Wrong Marks : 1

Question Key Details :

Key	Value
Comprehension	MCQ

નીચેનામાંથી કયું માનવ સંસાધન/પ્રતિભા સંચાલનનું કાર્ય નથી?

1. માર્કેટિંગ મેનેજમેન્ટ
2. શ્રેષ્ઠ કર્મચારીઓ મેળવવી
3. જાળવણી અને નિવારણ
4. કર્મચારીઓને તાલીમ અને વિકાસ

Options :

485584146257. 1
485584146258. 2
485584146259. 3
485584146260. 4

Question Number : 181 Question Id : 48558436566 Question Type : MCQ Option Shuffling : No Is Question Mandatory : No Calculator : None Response Time : N.A Think Time : N.A Minimum Instruction Time : 0

Correct Marks : 5 Wrong Marks : 1

Question Key Details :

Key	Value
Comprehension	MCQ

A diet can be modified to meet the medical needs of a patient through which of the following?

- A. Changing consistency and/or texture
- B. Adding supplements
- C. Increase or decrease in the amount of one or more nutrients
- D. Increase or decrease in calorie intake
- E. Making an all fruit diet

Choose the correct answer from the options given below:

1. A, B and E only
2. A, C and E only
3. B, C and D only
4. A, C and D only

Options :

485584146261. 1
485584146262. 2
485584146263. 3
485584146264. 4

Question Number : 181 Question Id : 48558436566 Question Type : MCQ Option Shuffling : No Is Question Mandatory : No Calculator : None Response Time : N.A Think Time : N.A Minimum Instruction Time : 0

Correct Marks : 5 Wrong Marks : 1

Question Key Details :

Key	Value
Comprehension	MCQ

વ્યક્તિની તબીબી જરૂરીયાતોને પૂરી કરવા માટે આહારમાં આના દ્વારા ફેરફાર કરી શકાય છે ?

- A. સુસંગતતા અથવા રચના બદલવી
- B. પૂરક ઉમેરવા
- C. પીષક તત્ત્વોમાં વધારો કે ઘટાડો કરવો
- D. કેલેરીની માત્રામાં વધારો કે ઘટાડો કરવો
- E. તમામ ફળ આહાર બનાવવો

નીચે આપેલા વિકલ્પોમાંથી સાચો જવાબ પસંદ કરો.

- 1. ફક્ત A, B અને E
- 2. ફક્ત A, C અને E
- 3. ફક્ત B, C અને D
- 4. ફક્ત A, C અને D

Options :

- 485584146261. 1
- 485584146262. 2
- 485584146263. 3
- 485584146264. 4

Question Number : 182 Question Id : 48558436567 Question Type : MCQ Option Shuffling : No Is Question Mandatory : No Calculator : None Response Time : N.A Think Time : N.A Minimum Instruction Time : 0

Correct Marks : 5 Wrong Marks : 1

Question Key Details :

Key	Value
Comprehension	MCQ

Shreya wants to design a dress by incorporating rhythm design principle. Which of the following can NOT be used to create rhythm?

- 1. Use of contrasting colours
- 2. Cordation
- 3. Radiation
- 4. Parallelism

Options :

- 485584146265. 1
- 485584146266. 2
- 485584146267. 3
- 485584146268. 4

Question Number : 182 Question Id : 48558436567 Question Type : MCQ Option Shuffling : No Is Question Mandatory : No Calculator : None Response Time : N.A Think Time : N.A Minimum Instruction Time : 0

Correct Marks : 5 Wrong Marks : 1

Question Key Details :

Key	Value
Comprehension	MCQ

શ્રેયા રિધમ ડિઝાઇન સિદ્ધાંતને સામેલ કરીને ફેસ ડિઝાઇન કરવા માંગે છે. લય બનાવવા માટે નીચેનામાંથી કયો ઉપયોગ કરી શકાતો નથી?

1. વિરોધાભાસી રંગોનો ઉપયોગ
2. કોર્ડેશન
3. રેડિયેશન
4. સમાંતરવાદ

Options :

485584146265. 1
485584146266. 2
485584146267. 3
485584146268. 4

Question Number : 183 Question Id : 48558436568 Question Type : MCQ Option Shuffling : No Is Question Mandatory : No Calculator : None Response Time : N.A Think Time : N.A Minimum Instruction Time : 0

Correct Marks : 5 Wrong Marks : 1

Question Key Details :

Key	Value
Comprehension	MCQ

Identify the aspects relating to care and maintenance of fabrics:

- A. Keeping the material free of physical damage
- B. Discard clothes if any damage occurs
- C. Refreshing or retaining the appearance by removing stains and dirt
- D. Retaining the textural and visual characteristics
- E. Changing the visual characteristics

Choose the correct answer from the options given below:

1. A, B and C only
2. B, C and D only
3. C, D and E only
4. A, C and D only

Options :

485584146269. 1
485584146270. 2
485584146271. 3
485584146272. 4

Question Number : 183 Question Id : 48558436568 Question Type : MCQ Option Shuffling : No Is Question Mandatory : No Calculator : None Response Time : N.A Think Time : N.A Minimum Instruction Time : 0

Correct Marks : 5 Wrong Marks : 1

Question Key Details :

Key	Value
Comprehension	MCQ

કાપડની સંભાળ અને જાળવણીના કેટલાક પાસાઓનો સમાવેશ કરેલ છે. તેમને ઓળખો.

- A. સામગ્રીને ભૌતિક નુકસાનથી મુક્ત રાખવી
- B. જો કોઈ નુકસાન થાય તો કપડાંનો નીકાલ કરવો.
- C. ડાઘ અને ગંદકી દૂર કરીને તાજું કરવું અથવા દેખાવ જાળવી રાખવી.
- D. ટેક્સચર અને વિઝ્યુઅલ લાક્ષણિકતાઓ જાળવી રાખવી
- E. વિઝ્યુઅલ લાક્ષણિકતાઓ બદલવી

નીચે આપેલા વિકલ્પોમાંથી યોગ્ય જવાબ પસંદ કરો.

- 1. ફક્ત A, B અને C
- 2. ફક્ત B, C અને D
- 3. ફક્ત C, D અને E
- 4. ફક્ત A, C અને D

Options :

- 485584146269. 1
- 485584146270. 2
- 485584146271. 3
- 485584146272. 4

Question Number : 184 Question Id : 48558436569 Question Type : MCQ Option Shuffling : No Is Question Mandatory : No Calculator : None Response Time : N.A Think Time : N.A Minimum Instruction Time : 0

Correct Marks : 5 Wrong Marks : 1

Question Key Details :

Key	Value
Comprehension	MCQ

Which of the following does NOT fall under the category of straight lines ?

- 1. Vertical
- 2. Zig-zag
- 3. Horizontal
- 4. Diagonal

Options :

- 485584146273. 1
- 485584146274. 2
- 485584146275. 3
- 485584146276. 4

Question Number : 184 Question Id : 48558436569 Question Type : MCQ Option Shuffling : No Is Question Mandatory : No Calculator : None Response Time : N.A Think Time : N.A Minimum Instruction Time : 0

Correct Marks : 5 Wrong Marks : 1

Question Key Details :

Key	Value
Comprehension	MCQ

नीचे मांथी क्यु सीधी वीटी ना अंतर्गत नथी आवतुं ?

1. पटिकव
2. जिन-जेन
3. आडी
4. कर्ष

Options :

485584146273. 1
485584146274. 2
485584146275. 3
485584146276. 4

Question Number : 185 Question Id : 48558436570 Question Type : MCQ Option Shuffling : No Is Question Mandatory : No Calculator : None Response Time : N.A Think Time : N.A Minimum Instruction Time : 0

Correct Marks : 5 Wrong Marks : 1

Question Key Details :

Key	Value
Comprehension	MCQ

Match List I with List II

LIST I (Processed foods)		LIST II (Examples)	
A.	Preserved foods	I.	Low sodium salt
B.	Manufactured foods	II.	Canned fruits
C.	Formulated foods	III.	Papads
D.	Medical foods	IV.	Ice creams

Choose the correct answer from the options given below:

1. A-I, B-II, C-III, D-IV
2. A-II, B-III, C-I, D-IV
3. A-III, B-II, C-I, D-IV
4. A-II, B-III, C-IV, D-I

Options :

485584146277. 1
485584146278. 2
485584146279. 3

485584146280. 4

Question Number : 185 Question Id : 48558436570 Question Type : MCQ Option Shuffling : No Is Question Mandatory : No Calculator : None Response Time : N.A Think Time : N.A Minimum Instruction Time : 0

Correct Marks : 5 Wrong Marks : 1

Question Key Details :

Key	Value
Comprehension	MCQ

સૂચિ I સાથે સૂચિ II ને જોડો.

સૂચિ I (ખોરાક (ફડ))		સૂચિ II (ઉદાહરણો)	
A.	પરિરક્ષીત ખોરાક	I.	સોડિયમ સોલ્ટનો ઓછો માત્રા
B.	ઉત્પાદન (બનાવેલ) ખોરાક	II.	કેન્ડ ફળો
C.	ફીરમ્યુલેટેડ ખોરાક	III.	પાપડ
D.	તૃબાબા ખોરાક	IV.	આઈસક્રીમ

નીચે આપેલા વિકલ્પોમાંથી સાચો જવાબ પસંદ કરો.

1. A-I, B-II, C-III, D-IV

2. A-II, B-III, C-I, D-IV

3. A-III, B-II, C-I, D-IV

4. A-II, B-III, C-IV, D-I

Options :

485584146277. 1

485584146278. 2

485584146279. 3

485584146280. 4

Question Number : 186 Question Id : 48558436571 Question Type : MCQ Option Shuffling : No Is Question Mandatory : No Calculator : None Response Time : N.A Think Time : N.A Minimum Instruction Time : 0

Correct Marks : 5 Wrong Marks : 1

Question Key Details :

Key	Value
Comprehension	MCQ

Match List I with List II

LIST I (Terms)		LIST II (Explanation)	
A.	Food Quality	I.	Assurance that food will not cause any harm to the consumers
B.	Toxicity	II.	Relative probability that harm or injury will result when substance is not used in prescribed manner and quantity
C.	Food Safety	III.	Capacity of a substance to produce harm or injury of any kind under any conditions
D.	Hazard	IV.	Attributes that influence a product's value to consumers

Choose the correct answer from the options given below:

1. A-IV, B-III, C-I, D-II
2. A-I, B-II, C-III, D-IV
3. A-I, B-IV, C-II, D-III
4. A-IV, B-III, C-II, D-I

Options :

485584146281. 1
485584146282. 2
485584146283. 3
485584146284. 4

Question Number : 186 Question Id : 48558436571 Question Type : MCQ Option Shuffling : No Is Question Mandatory : No Calculator : None Response Time : N.A Think Time : N.A Minimum Instruction Time : 0

Correct Marks : 5 Wrong Marks : 1

Question Key Details :

Key	Value
Comprehension	MCQ

સૂચિ I સાથે સૂચિ II ને જોડો.

સૂચિ I (ટર્મ)	સૂચિ II (સમજૂતી)
A. બાંધ ગુણવત્તા	I. ખાતરી કરે છે કે ખોરાક નુકસાન નહીં કરે સાપેક્ષ સંભાવના કે જ્યારે નિર્ધારિત રીતે
B. વિષાણતા	II. ઉપયોગ ન કરવામાં આવે ત્યારે નુકસાન અથવા પ્રભાવ પરીણામવું
C. બાંધ સુરક્ષા	III. પદાર્થનો ક્ષમતા જે નુકસાન પહોંચાડે
D. જોખમી	IV. ઉપભોક્તા માટે ઉત્પાદનના મૂલ્યને પ્રભાવિત કરતી વિશેષતાઓ

નીચે આપેલા વિકલ્પોમાંથી સાચો જવાબ પસંદ કરો.

1. A-IV, B-III, C-I, D-II

2. A-I, B-II, C-III, D-IV

3. A-I, B-IV, C-II, D-III

4. A-IV, B-III, C-II, D-I

Options :

485584146281. 1

485584146282. 2

485584146283. 3

485584146284. 4

**Question Number : 187 Question Id : 48558436572 Question Type : MCQ Option Shuffling : No Is Question Mandatory :
No Calculator : None Response Time : N.A Think Time : N.A Minimum Instruction Time : 0**

Correct Marks : 5 Wrong Marks : 1

Question Key Details :

Key	Value
Comprehension	MCQ

Match List I with List II

LIST I (Extension Projects)		LIST II (Communication tools used)	
A.	RRE	I.	Satellite
B.	SEWA	II.	Print media
C.	Project Village Chhatara	III.	Campaign
D.	EDUSAT	IV.	ICT

Choose the correct answer from the options given below:

1. A-II, B-I, C-IV, D-III
2. A-IV, B-I, C-III, D-II
3. A-III, B-IV, C-II, D-I
4. A-II, B-III, C-I, D-IV

Options :

485584146285. 1
485584146286. 2
485584146287. 3
485584146288. 4

Question Number : 187 Question Id : 48558436572 Question Type : MCQ Option Shuffling : No Is Question Mandatory : No Calculator : None Response Time : N.A Think Time : N.A Minimum Instruction Time : 0

Correct Marks : 5 Wrong Marks : 1

Question Key Details :

Key	Value
Comprehension	MCQ

સૂચિ I સાથે સૂચિ II ને જોડો.

સૂચિ I (વિસ્તરણ યોજનાઓ)		સૂચિ II (ઉપયોગમાં લેવાતા સંચાર ટૂલ્સ)	
A.	RRE	I.	ટેલિવિઝન
B.	SEWA	II.	પ્રિન્ટ માધ્યમ
C.	પ્રોજેક્ટ વિલેજ છટરા	III.	પ્રચાર (કેમ્પેઈન)
D.	EDUSAT	IV.	ICT

નીચે આપેલા વિકલ્પોમાંથી સાચો જવાબ પસંદ કરો.

1. A-II, B-I, C-IV, D-III
2. A-IV, B-I, C-III, D-II
3. A-III, B-IV, C-II, D-I
4. A-II, B-III, C-I, D-IV

Options :

485584146285. 1

485584146286. 2
485584146287. 3
485584146288. 4

Question Number : 188 Question Id : 48558436573 Question Type : MCQ Option Shuffling : No Is Question Mandatory : No Calculator : None Response Time : N.A Think Time : N.A Minimum Instruction Time : 0

Correct Marks : 5 Wrong Marks : 1

Question Key Details :

Key	Value
Comprehension	MCQ

Match List I with List II

LIST I (Terms)		LIST II (Description)	
A.	Quality Assurance	I.	Process of implementation and monitoring of quality systems like TQM, ISO
B.	Quality control	II.	Process of problem solving with the purpose of getting a 'zero-defect' product
C.	Quality Management	III.	Characteristics of the product that are given by the buyer or desired by the consumer
D.	Specifications	IV.	Process of preventive problem management

Choose the correct answer from the options given below:

1. A-IV, B-II, C-I, D-III
2. A-IV, B-I, C-II, D-III
3. A-IV, B-II, C-III, D-I
4. A-I, B-II, C-IV, D-III

Options :

485584146289. 1
485584146290. 2
485584146291. 3
485584146292. 4

Question Number : 188 Question Id : 48558436573 Question Type : MCQ Option Shuffling : No Is Question Mandatory : No Calculator : None Response Time : N.A Think Time : N.A Minimum Instruction Time : 0

Correct Marks : 5 Wrong Marks : 1

Question Key Details :

Key	Value
Comprehension	MCQ

સૂચિ I સાથે સૂચિ II ને જોડો.

સૂચિ I (ટર્મ)		સૂચિ II (અર્થ)	
A.	ગુણવત્તા યકાસણો (ક્વોસિટ એશ્યોરન્સ)	I.	ગુણવત્તા પ્રણાલી (સિસ્ટમ)નું અમલીકરણ અને દેખરેખનો પ્રક્રમ
B.	ગુણવત્તા નિયંત્રણ (ક્વોલિટી કંટ્રોલ)	II.	ખામી વચ્ચેનું ઉત્પાદન (પ્રોડક્ટ) મેળવવાના એકલેતુ સાથે સમસ્યા નિવારણનો પ્રક્રમ
C.	ગુણવત્તા વ્યવસ્થાપન (ક્વોલિટી મેનેજમેન્ટ)	III.	ખરીદદારો દ્વારા અપાયેલ ખામીવાળી પ્રોડક્ટ નો લાક્ષણિકતાઓ
D.	સ્પષ્ટીકરણી (સ્પેશીફિકેશન)	IV.	સમસ્યા નિવારક વ્યવસ્થાપનની પ્રક્રમ

નીચે આપેલા વિકલ્પોમાંથી સાચો જવાબ પસંદ કરો.

1. A-IV, B-II, C-I, D-III
2. A-IV, B-I, C-II, D-III
3. A-IV, B-II, C-III, D-I
4. A-I, B-II, C-IV, D-III

Options :

485584146289. 1
485584146290. 2
485584146291. 3
485584146292. 4

Question Number : 189 Question Id : 48558436574 Question Type : MCQ Option Shuffling : No Is Question Mandatory : No Calculator : None Response Time : N.A Think Time : N.A Minimum Instruction Time : 0

Correct Marks : 5 Wrong Marks : 1

Question Key Details :

Key	Value
Comprehension	MCQ

Match List I with List II

LIST I (Designations)		LIST II (Duties)	
A.	Head waiter	I.	Reserves, registers and assign rooms to guests
B.	Chef-de-cuisine	II.	Supervisors for some sections of the kitchen
C.	Receptionist	III.	Lead a team of waiters/stewards
D.	Chef-de-parties	IV.	Planning, organising and controlling the kitchen operations

Choose the correct answer from the options given below:

1. A-III, B-IV, C-I, D-II
2. A-II, B-IV, C-III, D-I
3. A-I, B-II, C-III, D-IV
4. A-IV, B-II, C-I, D-III

Options :

485584146293. 1
485584146294. 2
485584146295. 3
485584146296. 4

Question Number : 189 Question Id : 48558436574 Question Type : MCQ Option Shuffling : No Is Question Mandatory : No Calculator : None Response Time : N.A Think Time : N.A Minimum Instruction Time : 0

Correct Marks : 5 Wrong Marks : 1

Question Key Details :

Key	Value
Comprehension	MCQ

સૂચિ I સાથે સૂચિ II ને જોડો.

સૂચિ I (પદ)		સૂચિ II (જવાબદારી)	
A.	મુખ્ય વેઈટર	I.	કન્ટ ઓફિસ વિભાગ
B.	ચેફ-ડે-ક્યુસીન	II.	હાઉસકીપિંગ વિભાગ
C.	રિસેપ્શનિસ્ટ	III.	આહાર અને ઠંડાપીણા વિભાગ (ફૂડ અને બેવેરેજ)
D.	કેડ-હાઉસમેન	IV.	રસોડા વિભાગ

નીચે આપેલા વિકલ્પોમાંથી સાચી જવાબ પસંદ કરો.

1. A-III, B-IV, C-I, D-II
2. A-II, B-IV, C-III, D-I
3. A-I, B-II, C-III, D-IV
4. A-IV, B-II, C-I, D-III

Options :

485584146293. 1

485584146294. 2
485584146295. 3
485584146296. 4

Question Number : 190 Question Id : 48558436575 Question Type : MCQ Option Shuffling : No Is Question Mandatory : No Calculator : None Response Time : N.A Think Time : N.A Minimum Instruction Time : 0

Correct Marks : 5 Wrong Marks : 1

Question Key Details :

Key	Value
Comprehension	MCQ

Match List I with List II

LIST I (Programme)		LIST II (Target group)	
A	ICDS	I.	Children under 18 years of age
B	SOS	II.	College going students
C	Special homes	III.	Children below six years of age
D	NSS	IV.	Needy/abandoned children

Choose the correct answer from the options given below:

1. A-I, B-IV, C-II, D-I
2. A-IV, B-III, C-I, D-II
3. A-III, B-IV, C-I, D-II
4. A-IV, B-III, C-II, D-I

Options :

485584146297. 1
485584146298. 2
485584146299. 3
485584146300. 4

Question Number : 190 Question Id : 48558436575 Question Type : MCQ Option Shuffling : No Is Question Mandatory : No Calculator : None Response Time : N.A Think Time : N.A Minimum Instruction Time : 0

Correct Marks : 5 Wrong Marks : 1

Question Key Details :

Key	Value
Comprehension	MCQ

સૂચિ I સાથે સૂચિ II ને જોડો.

સૂચિ I		સૂચિ II	
A.	ICDS	I.	બાળધરો
B.	SOS	II.	યુથ માટે પ્રોગ્રામ
C.	સ્પેશિયલ ધરો	III.	બાળકો માટે પ્રોગ્રામ
D.	NSS	IV.	પરિવાર આધારિત સંભાળ માટે દ્રષ્ટિ

નીચે આપેલા વિકલ્પોમાંથી સાચો જવાબ પસંદ કરો.

1. A-I, B-IV, C-II, D-I
2. A-IV, B-III, C-I, D-II
3. A-III, B-IV, C-I, D-II
4. A-IV, B-III, C-II, D-I

Options :

485584146297. 1
485584146298. 2
485584146299. 3
485584146300. 4

Sub-Section Number :

2

Sub-Section Id :

4855842700

Question Shuffling Allowed :

No

Is Section Default? :

null

Question Number : 191 Question Id : 48558436576 Question Type : MCQ Option Shuffling : No Is Question Mandatory : No Calculator : None Response Time : N.A Think Time : N.A Minimum Instruction Time : 0

Correct Marks : 5 Wrong Marks : 1

Question Key Details :

Key	Value
Comprehension	Comp1

Read the passage carefully. Attempt Question

Anganwadi Centers (AWCs) are the most common and publicly available facilities, initially constituted in 1975 to strengthen the public health system by providing immunization and health check-ups, and later to provide supplementary nutrition non-formal pre-school education and day-care.

The two key elements of early childhood development include education and health. A child's early years (0 to 8 years) form the foundation of all learning and are therefore the most extraordinary period of development in a child's life. Research has shown that greater cognitive abilities and being developmentally on track with literacy and numeracy in childhood provide for better learning in school and higher educational attainment, leading to major social and economic gains for society in the long run. Similarly, providing children with a nurturing environment in early years, with adequate nutrition, hygiene, protection and responsive stimulation, boosts healthy childhood development and delivers positive outcomes.

The Anganwadi centers were started in which year in India?

1. 1975
2. 1980
3. 1982
4. 1984

Options :

485584146301. 1
485584146302. 2
485584146303. 3
485584146304. 4

Question Number : 191 Question Id : 48558436576 Question Type : MCQ Option Shuffling : No Is Question Mandatory : No Calculator : None Response Time : N.A Think Time : N.A Minimum Instruction Time : 0

Correct Marks : 5 Wrong Marks : 1

Question Key Details :

Key	Value
Comprehension	Compl

નીચેના આપેલા ફકરાં ને ધ્યાન પૂર્વક વાંચીને સાચા જવાબો આપો.

આંગણવાડી કેન્દ્રો (AWCs) સૌથી સામાન્ય અને સાર્વજનિક રૂપે ઉપલબ્ધ સુવિધાઓ છે, જે 1975 માં રસીકરણ અને આરોગ્ય તપાસ પૂરી પાડીને જાહેર આરોગ્ય પ્રણાલીને મજબૂત કરવા અને બાદમાં પૂરક પોષણ-ઔપચારિક પૂર્વ-શાળા શિક્ષણ અને દિવસની સંભાળ પૂરી પાડવા માટે રચાયેલ છે જોકે AWC સિસ્ટમ સિસ્ટમમાં નબળાઈ અને ત્યાં પૂરી પાડવામાં આવીતી સેવાઓની નબળી ગુણવત્તા સારી દસ્તાવેજીકૃત છે. આજે 51% ગરીબ ઘરના બાળકો AWC માં જાય છે જ્યારે ટોચના 20% ઘરના બાળકો બાનગી સંભાળ સુવિધાઓમાં હાજરી આપે છે. દેશની AWC સુવિધાની આ નબળી અને અસમાન ઉપયોગ Human capital index માં (2020 માં 174 દેશોમાંથી 116મો) તેમજ ----- (107 દેશોમાં 94મો) ભારતની નબળી રેન્કિંગમાં પ્રતિબિંબિત થાય છે.

પ્રારંભિક બાળ વિકાસના બે મુખ્ય તત્વોમાં શિક્ષણ અને આરોગ્યનો સમાવેશ થાય છે. બાળપણના પ્રારંભિક વર્ષો (0-8) તમામ શિક્ષણનો પાયો બનાવે છે અને તેથી બાળકના જીવનમાં વિકાસનો સૌથી મહત્વનો સમયગાળો છે. સંશોધનોએ વધુ જ્ઞાનાત્મક ક્ષમતાઓ દર્શાવી છે અને બાળપણમાં સાક્ષરતા અને સંખ્યાની સાથે વિકાસના માર્ગ પર હોવાથી શાળામાં વધુ સાચું શિક્ષણ અને ઉચ્ચ શૈક્ષણિક પ્રાપ્તિ પ્રદાન કરવા જોઈએ, જે વાંબા ગાળે સમાજ માટે મોટા સામાજિક અને આર્થિક વાહી તરફ દોરી જાય છે. તેવી રીતે બાળકને શરૂઆતના વર્ષોમાં પૂરતા પોષણ, સ્વચ્છતા સુરક્ષા અને પ્રતિભાવશીલ ઉત્તેજના સાથે, તંદુરસ્ત બાળપણના વિકાસને વેગ આપે છે અને હકારાત્મક પરિણામો આપે છે.

ભારતમાં આંગણવાડી કેન્દ્રો ક્યારે શરૂ કરવામાં આવ્યાં ?

1. 1975
2. 1980
3. 1982
4. 1984

Options :

485584146301. 1
485584146302. 2
485584146303. 3
485584146304. 4

Question Number : 192 Question Id : 48558436577 Question Type : MCQ Option Shuffling : No Is Question Mandatory : No Calculator : None Response Time : N.A Think Time : N.A Minimum Instruction Time : 0

Correct Marks : 5 Wrong Marks : 1

Question Key Details :

Key	Value
Comprehension	Comp1

Read the passage carefully. Attempt Question

Anganwadi Centers (AWCs) are the most common and publicly available facilities, initially constituted in 1975 to strengthen the public health system by providing immunization and health check-ups, and later to provide supplementary nutrition non-formal pre-school education and day-care.

The two key elements of early childhood development include education and health. A child's early years (0 to 8 years) form the foundation of all learning and are therefore the most extraordinary period of development in a child's life. Research has shown that greater cognitive abilities and being developmentally on track with literacy and numeracy in childhood provide for better learning in school and higher educational attainment, leading to major social and economic gains for society in the long run. Similarly, providing children with a nurturing environment in early years, with adequate nutrition, hygiene, protection and responsive stimulation, boosts healthy childhood development and delivers positive outcomes.

Identify the functions of the Anganwadi centres from the following:

- A. Providing immunisation
- B. Supplementary nutrition
- C. Non-formal pre-school education
- D. Supporting children in doing home-work after school

Choose the correct answer from the options given below:

- 1. B, C and D only
- 2. A, B and D only
- 3. A, B and C only
- 4. A, D and C only

Options :

485584146305. 1
485584146306. 2
485584146307. 3
485584146308. 4

Question Number : 192 Question Id : 48558436577 Question Type : MCQ Option Shuffling : No Is Question Mandatory : No Calculator : None Response Time : N.A Think Time : N.A Minimum Instruction Time : 0

Correct Marks : 5 Wrong Marks : 1

Question Key Details :

Key	Value
Comprehension	Compl

નીચેના આપેલા ફક્ત એક જ વાક્યને સાચા જવાબો આપો.

આંગણવાડી કેન્દ્રો (AWCs) સૌથી સામાન્ય અને સાર્વજનિક રૂપે ઉપલબ્ધ સુવિધાઓ છે, જે 1975 માં રસીકરણ અને આરોગ્ય તપાસ પૂરી પાડીને જાહેર આરોગ્ય પ્રણાલીને મજબૂત કરવા અને બાદમાં પૂરક પોષણ-ઓપરેટિવ પૂર્વ-શાળા શિક્ષણ અને દિવસની સંભાળ પૂરી પાડવા માટે રચાયેલ છે જોકે AWC સિસ્ટમ સિસ્ટમમાં નબળાઈ અને ત્યાં પૂરી પાડવામાં આવીતી સેવાઓની નબળી ગુણવત્તા સારી દસ્તાવેજીકૃત છે. આજે 51% ગરીબ ઘરના બાળકો AWC માં જાય છે જ્યારે ટોચના 20% ઘરના બાળકો બાનગી સંભાળ સુવિધાઓમાં હાજરી આપે છે. દેશની AWC સુવિધાની આ નબળી અને અસમાન ઉપયોગ Human capital index માં (2020 માં 174 દેશોમાંથી 116મો) તેમજ ----- (107 દેશોમાં 94મો) ભારતની નબળી રેન્કિંગમાં પ્રતિબિંબિત થાય છે.

પ્રારંભિક બાળ વિકાસના બે મુખ્ય તત્વોમાં શિક્ષણ અને આરોગ્યનો સમાવેશ થાય છે. બાળપણના પ્રારંભિક વર્ષો (0-8) તમામ શિક્ષણનો પાયો બનાવે છે અને તેથી બાળકના જીવનમાં વિકાસની સૌથી મહત્વનો સમયગાળો છે. સંશોધનોએ વધુ જ્ઞાનાત્મક ક્ષમતાઓ દર્શાવી છે અને બાળપણમાં સાક્ષરતા અને સંખ્યાની સાથે વિકાસના માર્ગ પર હોવાથી શાળામાં વધુ સાચું શિક્ષણ અને ઉચ્ચ શૈક્ષણિક પ્રાપ્તિ પ્રદાન કરવા જોઈએ, જે વાંબા ગાળે સમાજ માટે મોટા સામાજિક અને આર્થિક વાહી તરફ દોરી જાય છે. તેવી રીતે બાળકોને શરૂઆતના વર્ષોમાં પૂરતા પોષણ, સ્વચ્છતા સુરક્ષા અને પ્રતિભાવશીલ ઉત્તેજના સાથે, તંદુરસ્ત બાળપણના વિકાસને વેગ આપે છે અને હકારાત્મક પરિણામો આપે છે.

આગળવાળી પદ્ધતીના કાર્યો કયા છે ?

- રસીકરણ આપવું
- પૂરક પોષણ
- બીન-ઓપરેટિવ પૂર્વ શાળા
- બાળકોને શાળા સમાપ્ત થયાં બાદ ગ્રહ-કાર્ય કરવા માટે મદદ કરવી

નીચે આપેલા વિકલ્પોમાંથી યોગ્ય જવાબ પસંદ કરો.

- ફક્ત B, C અને D
- ફક્ત A, B અને D
- ફક્ત A, B અને C
- ફક્ત A, D અને C

Options :

485584146305. 1
485584146306. 2
485584146307. 3
485584146308. 4

Question Number : 193 Question Id : 48558436578 Question Type : MCQ Option Shuffling : No Is Question Mandatory : No Calculator : None Response Time : N.A Think Time : N.A Minimum Instruction Time : 0

Correct Marks : 5 Wrong Marks : 1

Question Key Details :

Key	Value
Comprehension	Compl

Read the passage carefully. Attempt Question

Anganwadi Centers (AWCs) are the most common and publicly available facilities, initially constituted in 1975 to strengthen the public health system by providing immunization and health check-ups, and later to provide supplementary nutrition non-formal pre-school education and day-care.

The two key elements of early childhood development include education and health. A child's early years (0 to 8 years) form the foundation of all learning and are therefore the most extraordinary period of development in a child's life. Research has shown that greater cognitive abilities and being developmentally on track with literacy and numeracy in childhood provide for better learning in school and higher educational attainment, leading to major social and economic gains for society in the long run. Similarly, providing children with a nurturing environment in early years, with adequate nutrition, hygiene, protection and responsive stimulation, boosts healthy childhood development and delivers positive outcomes.

The two key elements of early childhood development are _____

1. Nutrition and immunisation
2. Health and education
3. School readiness and health
4. Day care and creche

Options :

- 485584146309. 1
- 485584146310. 2
- 485584146311. 3
- 485584146312. 4

Question Number : 193 Question Id : 48558436578 Question Type : MCQ Option Shuffling : No Is Question Mandatory : No Calculator : None Response Time : N.A Think Time : N.A Minimum Instruction Time : 0

Correct Marks : 5 Wrong Marks : 1

Question Key Details :

Key	Value
Comprehension	Comp1

નીચેના આપેલા ફકરાં ને ધ્યાન પૂર્વક વાંચીને સાચા જવાબો આપો.

આંગણવાડી કેન્દ્રો (AWCs) સૌથી સામાન્ય અને સાર્વજનિક રૂપે ઉપલબ્ધ સુવિધાઓ છે, જે 1975 માં રસીકરણ અને આરોગ્ય તપાસ પૂરી પાડીને જાહેર આરોગ્ય પ્રણાલીને મજબૂત કરવા અને બાદમાં પૂરક પોષણ-ઔપચારિક પૂર્વ-શાળા શિક્ષણ અને દિવસની સંભાળ પૂરી પાડવા માટે રચાયેલ છે જોકે AWC સિસ્ટમ સિસ્ટમમાં નબળાઈ અને ત્યાં પૂરી પાડવામાં આવીતી સેવાઓની નબળી ગુણવત્તા સારી દસ્તાવેજીકૃત છે. આજે 51% ગરીબ ઘરના બાળકો AWC માં જાય છે જ્યારે ટોચના 20% ઘરના બાળકો બાળકી સંભાળ સુવિધાઓમાં હાજરી આપે છે. દેશની AWC સુવિધાની આ નબળી અને અસમાન ઉપયોગ Human capital index માં (2020 માં 174 દેશોમાંથી 116મો) તેમજ ----- (107 દેશોમાં 94મો) ભારતની નબળી રેન્કિંગમાં પ્રતિબિંબિત થાય છે.

પ્રારંભિક બાળ વિકાસના બે મુખ્ય તત્વોમાં શિક્ષણ અને આરોગ્યનો સમાવેશ થાય છે. બાળપણના પ્રારંભિક વર્ષો (0-8) તમામ શિક્ષણની પાયો બનાવે છે અને તેથી બાળકના જીવનમાં વિકાસની સૌથી મહત્વનો સમયગાળો છે. સંશોધનોએ વધુ જ્ઞાનાત્મક ક્ષમતાઓ દર્શાવી છે અને બાળપણમાં સાક્ષરતા અને સંખ્યાની સાથે વિકાસના માર્ગ પર હોવાથી શાળામાં વધુ સાચું શિક્ષણ અને ઉચ્ચ શૈક્ષણિક પ્રાપ્તિ પ્રદાન કરવા જોઈએ, જે વાંબા ગાળે સમાજ માટે મોટા સામાજિક અને આર્થિક વાહી તરફ દોરી જાય છે. તેવી રીતે બાળકોને શરૂઆતના વર્ષોમાં પૂરતા પોષણ, સ્વચ્છતા સુરક્ષા અને પ્રતિભાવશીલ ઉત્તેજના સાથે, તંદુરસ્ત બાળપણના વિકાસને વેગ આપે છે અને હકારાત્મક પરિણામો આપે છે.

પ્રારંભિક બાળપણ વિકાસના કયા બે મૂળ તત્વો છે ?

1. પોષક અને રસીકરણ
2. સ્વાસ્થ્ય અને શિક્ષણ
3. શાળા તત્પરતા અને સ્વાસ્થ્ય
4. ડે કેર અને ક્રિય

Options :

485584146309. 1
485584146310. 2
485584146311. 3
485584146312. 4

Question Number : 194 Question Id : 48558436579 Question Type : MCQ Option Shuffling : No Is Question Mandatory : No Calculator : None Response Time : N.A Think Time : N.A Minimum Instruction Time : 0

Correct Marks : 5 Wrong Marks : 1

Question Key Details :

Key	Value
Comprehension	Comp1

Read the passage carefully. Attempt Question

Anganwadi Centers (AWCs) are the most common and publicly available facilities, initially constituted in 1975 to strengthen the public health system by providing immunization and health check-ups, and later to provide supplementary nutrition non-formal pre-school education and day-care.

The two key elements of early childhood development include education and health. A child's early years (0 to 8 years) form the foundation of all learning and are therefore the most extraordinary period of development in a child's life. Research has shown that greater cognitive abilities and being developmentally on track with literacy and numeracy in childhood provide for better learning in school and higher educational attainment, leading to major social and economic gains for society in the long run. Similarly, providing children with a nurturing environment in early years, with adequate nutrition, hygiene, protection and responsive stimulation, boosts healthy childhood development and delivers positive outcomes.

The period of laying the foundation of all learning and rapid development during early childhood development is _____.

1. 3 to 6 years
2. 0 to 8 years
3. 1 to 2 years
4. 0 to 2 years

Options :

- 485584146313. 1
- 485584146314. 2
- 485584146315. 3
- 485584146316. 4

Question Number : 194 Question Id : 48558436579 Question Type : MCQ Option Shuffling : No Is Question Mandatory : No Calculator : None Response Time : N.A Think Time : N.A Minimum Instruction Time : 0

Correct Marks : 5 Wrong Marks : 1

Question Key Details :

Key	Value
Comprehension	Comp1

નીચેના આપેલા ફકરાં ને ધ્યાન પૂર્વક વાંચીને સાચા જવાબો આપો.

આંગણવાડી કેન્દ્રો (AWCs) સૌથી સામાન્ય અને સાર્વજનિક રૂપે ઉપલબ્ધ સુવિધાઓ છે, જે 1975 માં રસીકરણ અને આરોગ્ય તપાસ પૂરી પાડીને જાહેર આરોગ્ય પ્રણાલીને મજબૂત કરવા અને બાદમાં પૂરક પોષણ-ઔપચારિક પૂર્વ-શાળા શિક્ષણ અને દિવસની સંભાળ પૂરી પાડવા માટે રચાયેલ છે જોકે AWC સિસ્ટમ સિસ્ટમમાં નબળાઈ અને ત્યાં પૂરી પાડવામાં આવીતી સેવાઓની નબળી ગુણવત્તા સારી દસ્તાવેજીકૃત છે. આજે 51% ગરીબ ઘરના બાળકો AWC માં જાય છે જ્યારે ટોચના 20% ઘરના બાળકો બાળકી સંભાળ સુવિધાઓમાં હાજરી આપે છે. દેશની AWC સુવિધાની આ નબળી અને અસમાન ઉપયોગ Human capital index માં (2020 માં 174 દેશોમાંથી 116મો) તેમજ ----- (107 દેશોમાં 94મો) ભારતની નબળી રેન્કિંગમાં પ્રતિબિંબિત થાય છે.

પ્રારંભિક બાળ વિકાસના બે મુખ્ય તત્વોમાં શિક્ષણ અને આરોગ્યનો સમાવેશ થાય છે. બાળપણના પ્રારંભિક વર્ષો (0-8) તમામ શિક્ષણની પાયો બનાવે છે અને તેથી બાળકના જીવનમાં વિકાસનો સૌથી મહત્વનો સમયગાળો છે. સંશોધનોએ વધુ જ્ઞાનાત્મક ક્ષમતાઓ દર્શાવી છે અને બાળપણમાં સાક્ષરતા અને સંખ્યાની સાથે વિકાસના માર્ગ પર હોવાથી શાળામાં વધુ સાચું શિક્ષણ અને ઉચ્ચ શૈક્ષણિક પ્રાપ્તિ પ્રદાન કરવા જોઈએ, જે વાંબા ગાળે સમાજ માટે મોટા સામાજિક અને આર્થિક લાભો તરફ દોરી જાય છે. તેવી રીતે બાળકોને શરૂઆતના વર્ષોમાં પૂરતા પોષણ, સ્વચ્છતા સુરક્ષા અને પ્રતિભાવશીલ ઉત્તેજના સાથે, તંદુરસ્ત બાળપણના વિકાસને વેગ આપે છે અને હકારાત્મક પરિણામો આપે છે.

પ્રારંભિક બાળપણના વિકાસ દરમિયાન ઝડપી વિકાસનો સમયગાળો છે તે

1. 3 થી 6 વર્ષ
2. 0 થી 8 વર્ષ
3. 1 થી 2 વર્ષ
4. 0 થી 2 વર્ષ

Options :

485584146313. 1
485584146314. 2
485584146315. 3
485584146316. 4

Question Number : 195 Question Id : 48558436580 Question Type : MCQ Option Shuffling : No Is Question Mandatory : No Calculator : None Response Time : N.A Think Time : N.A Minimum Instruction Time : 0

Correct Marks : 5 Wrong Marks : 1

Question Key Details :

Key	Value
Comprehension	Comp1

Read the passage carefully. Attempt Question

Anganwadi Centers (AWCs) are the most common and publicly available facilities, initially constituted in 1975 to strengthen the public health system by providing immunization and health check-ups, and later to provide supplementary nutrition non-formal pre-school education and day-care.

The two key elements of early childhood development include education and health. A child's early years (0 to 8 years) form the foundation of all learning and are therefore the most extraordinary period of development in a child's life. Research has shown that greater cognitive abilities and being developmentally on track with literacy and numeracy in childhood provide for better learning in school and higher educational attainment, leading to major social and economic gains for society in the long run. Similarly, providing children with a nurturing environment in early years, with adequate nutrition, hygiene, protection and responsive stimulation, boosts healthy childhood development and delivers positive outcomes.

To boost healthy childhood and getting positive outcomes in ECCE, which of the following needs to be provided?

- A. Adequate nutrition
- B. Responsive stimulation
- C. Hygiene
- D. Toys and games
- E. Immunisation

Choose the correct answer from the options given below:

- 1. A, B and C only
- 2. A, B and D only
- 3. B, C and D only
- 4. C, D and E only

Options :

- 485584146317. 1
- 485584146318. 2
- 485584146319. 3
- 485584146320. 4

Question Number : 195 Question Id : 48558436580 Question Type : MCQ Option Shuffling : No Is Question Mandatory : No Calculator : None Response Time : N.A Think Time : N.A Minimum Instruction Time : 0

Correct Marks : 5 Wrong Marks : 1

Question Key Details :

Key	Value
Comprehension	Comp1

નીચેના આપેલા ફક્ત એક જ વાક્યને સાચા જવાબો આપો.

આંગણવાડી કેન્દ્રો (AWCs) સૌથી સામાન્ય અને સાર્વજનિક રૂપે ઉપલબ્ધ સુવિધાઓ છે, જે 1975 માં રસીકરણ અને આરોગ્ય તપાસ પૂરી પાડીને જાહેર આરોગ્ય પ્રણાલીને મજબૂત કરવા અને બાદમાં પૂરક પોષણ-ઔપચારિક પૂર્વ-શાળા શિક્ષણ અને દિવસની સંભાળ પૂરી પાડવા માટે રચાયેલ છે જોકે AWC સિસ્ટમ સિસ્ટમમાં નબળાઈ અને ત્યાં પૂરી પાડવામાં આવીતી સેવાઓની નબળી ગુણવત્તા સારી દસ્તાવેજીકૃત છે. આજે 51% ગરીબ ઘરના બાળકો AWC માં જાય છે જ્યારે ટોચના 20% ઘરના બાળકો બાળકી સંભાળ સુવિધાઓમાં હાજરી આપે છે. દેશની AWC સુવિધાની આ નબળી અને અસમાન ઉપયોગ Human capital index માં (2020 માં 174 દેશોમાંથી 116મો) તેમજ ----- (107 દેશોમાં 94મો) ભારતની નબળી રેન્કિંગમાં પ્રતિબિંબિત થાય છે.

પ્રારંભિક બાળ વિકાસના બે મુખ્ય તત્વોમાં શિક્ષણ અને આરોગ્યનો સમાવેશ થાય છે. બાળપણના પ્રારંભિક વર્ષો (0-8) તમામ શિક્ષણની પાયા બનાવે છે અને તેથી બાળકના જીવનમાં વિકાસની સૌથી મહત્વનો સમયગાળો છે. સંશોધનોએ વધુ જ્ઞાનાત્મક ક્ષમતાઓ દર્શાવી છે અને બાળપણમાં સાક્ષરતા અને સંખ્યાની સાથે વિકાસના માર્ગ પર હોવાથી શાળામાં વધુ સાચું શિક્ષણ અને ઉચ્ચ શૈક્ષણિક પ્રાપ્તિ પ્રદાન કરવા જોઈએ, જે વાંબા ગાળે સમાજ માટે મોટા સામાજિક અને આર્થિક વાહી તરફ દોરી જાય છે. તેવી રીતે બાળકોને શરૂઆતના વર્ષોમાં પૂરતા પોષણ, સ્વચ્છતા સુરક્ષા અને પ્રતિભાવશીલ ઉત્તેજના સાથે, તંદુરસ્ત બાળપણના વિકાસને વેગ આપે છે અને હકારાત્મક પરિણામો આપે છે.

ECCE માં હકારાત્મક પરિણામો મેળવવા માટે નીચેનામાંથી જેનું ધ્યાન રાખવું પડશે તે ?

- A. હકારાત્મક પર્યાપ્ત પોષણ
- B. પ્રતિભાવશીલ ઉત્તેજના
- C. સ્વચ્છતા
- D. રમકડાઓ અને રમતો આપે છે.
- E. રસીકરણ કરવું

નીચે આપેલા વિકલ્પોમાંથી યોગ્ય જવાબ પસંદ કરો.

- 1. ફક્ત A, B અને C
- 2. ફક્ત A, B અને D
- 3. ફક્ત B, C અને D
- 4. ફક્ત C, D અને E

Options :

- 485584146317. 1
- 485584146318. 2
- 485584146319. 3
- 485584146320. 4

Sub-Section Number :

3

Sub-Section Id :

4855842701

Question Shuffling Allowed :

No

Is Section Default? :

null

Question Number : 196 Question Id : 48558436581 Question Type : MCQ Option Shuffling : No Is Question Mandatory : No Calculator : None Response Time : N.A Think Time : N.A Minimum Instruction Time : 0

Correct Marks : 5 Wrong Marks : 1

Question Key Details :

Key	Value
-----	-------

Read the passage carefully. Attempt Question

Consumers not only purchase products but a whole gamut of services like those of banks, other financial institutions, airlines and travel agencies; hospitals and other medical practitioners; public utilities like garbage collection, cleanliness and maintenance of roads, parks, etc; electricity water telephone, post and telegraph; educational institutions and so on.

Consumers face a number of problems with regard to these services like excessive billing, being charged but not delivering the service, gap between promised level of service and service that is delivered, overstating the service attributes and enticing the consumer, making false claims and so on.

Gap between service delivery and external communication is a consumer issue. Consumer expectations are affected by promises made by the service provider in his external communication which may be through brochures, advertisements, personal selling etc. E.g. If a resort hotel brochure shows a beautiful room but the guests arrive and find the room to be cheap and very ordinary. Many a times people make advance bookings based on the brochures or seeing the website or some other advertisements. In such bookings sometimes advance also has to be paid. If the customer does not like the room ambience he may be left with little choice since refunds are not given by many hotels.

Many private educational institutions assure jobs to students after completion of course which eventually does not happen. Which service-related consumer problem is depicted in this example ?

1. Excessive billings
2. Being charged but not delivering the service
3. Making false claims
4. Overstating the service attributes

Options :

485584146321. 1
 485584146322. 2
 485584146323. 3
 485584146324. 4

Question Number : 196 Question Id : 48558436581 Question Type : MCQ Option Shuffling : No Is Question Mandatory : No Calculator : None Response Time : N.A Think Time : N.A Minimum Instruction Time : 0

Correct Marks : 5 Wrong Marks : 1

Question Key Details :

Key	Value
Comprehension	Comp2

નીચેના આપેલા ફકરાં ને ધ્યાન પૂર્વક વાંચીને સાચા જવાબો આપો.

ગ્રાહકો માત્ર ઉત્પાદનો જ ખરીદતા નથી પરંતુ બેંકો અન્ય નાણાકીય સંસ્થાઓ, એરલાઇન્સ અને ટ્રાવેલ એજન્સીઓ, હોસ્પિટલો અને અન્ય તબીબી વ્યવસાયિકો, જાહેર ઉપયોગિતાઓ જેવી કે કચરો એકત્ર કરવા, રસ્તાઓ, ઉદ્યાનો વગેરેની સ્વચ્છતા અને જાળવણી, વીજળી, પાણી, જેવી સેવાઓ ટેલિફોન પોસ્ટ, અને ટેલિગ્રાફી શૈક્ષણિક સંસ્થાઓ વગેરે.

ગ્રાહકોને આ સેવાઓના સંદર્ભમાં ઘણી સમસ્યાઓનો સામનો કરવો પડે છે જેમ કે અતિશય બિલિંગ વધુ ચાર્જ વસૂલવામાં આવે છે પરંતુ સેવાની ડિલિવરી ન કરવી, સેવાના વચનના સ્તર અને ડિલિવર કરવામાં આવતી સેવા વચ્ચેનું અંતર, સેવાના લક્ષણોને વધુ પડતો દર્શાવવો અને ગ્રાહકને લલચાવવો, ખોટા દાવા કરવા વગેરે વગેરે.

સર્વિસ ડિલિવરી અને બાહ્ય સંદેશાવ્યવહાર વચ્ચેનો તફાવત એ ગ્રાહક સમસ્યા છે. ઉપલોક્તા અપેક્ષાઓ સેવા પ્રદાતા દ્વારા તેના બાહ્ય સંદેશાવ્યવહારમાં આપેલા વચનથી પ્રભાવિત થાય છે જે બ્રોશરો, જાહેરાતો વ્યક્તિગત વેચાણ (પર્સનલ સેલિંગ) વગેરે દ્વારા હોઈ શકે છે. દા.ત. જો કોઈ રિસોર્ટ કે હોટેલ બ્રોશરમાં સુંદર રૂમ બતાવે છે પરંતુ મહેમાન આવે છે અને રૂમ ખરાબ અને ખૂબ જ સસ્તો લાગે છે. સામાન્ય ઘણી વખત વોકો બ્રોશરના આધારે અથવા વેબસાઈટ અથવા અન્ય કેટલીક જાહેરાતો જોઈને એડવાન્સ બુકિંગ કરાવે છે. આવા બુકિંગમાં ક્યારેક એડવાન્સ પણ ચૂકવવા પડે છે. જો ગ્રાહકને રૂમનું વાતાવરણ ન ગમતું હોય તેની પાસે બહુ ઓછી પસંદગી રહી શકે છે કારણ કે ઘણી હોટેલ દ્વારા રિફંડ આપવામાં આવતું નથી.

ઘણી ખાનગી શૈક્ષણિક સંસ્થાઓ અભ્યાસક્રમ પૂરો કર્યા પછી વિદ્યાર્થીઓને નોકરી ખાતરી આપે છે જે આખરે થતું નથી આમાં કઈ સેવા સંબંધીત ગ્રાહક સમસ્યાનું નિરૂપણ કરવામાં આવ્યું છે ?

1. અતિશય વધુ બિલિંગ
2. વધુ ચાર્જ લેવામાં આવે પરંતુ સેવા ન આપાય
3. ખોટા દાવા કરવા
4. સેવા વિશેષતાઓનું અત્યુક્તિ

Options :

485584146321. 1
485584146322. 2
485584146323. 3
485584146324. 4

Question Number : 197 Question Id : 48558436582 Question Type : MCQ Option Shuffling : No Is Question Mandatory : No Calculator : None Response Time : N.A Think Time : N.A Minimum Instruction Time : 0

Correct Marks : 5 Wrong Marks : 1

Question Key Details :

Key	Value
Comprehension	Comp2

Read the passage carefully. Attempt Question

Consumers not only purchase products but a whole gamut of services like those of banks, other financial institutions, airlines and travel agencies; hospitals and other medical practitioners; public utilities like garbage collection, cleanliness and maintenance of roads, parks, etc; electricity water telephone, post and telegraph; educational institutions and so on.

Consumers face a number of problems with regard to these services like excessive billing, being charged but not delivering the service, gap between promised level of service and service that is delivered, overstating the service attributes and enticing the consumer, making false claims and so on.

Gap between service delivery and external communication is a consumer issue. Consumer expectations are affected by promises made by the service provider in his external communication which may be through brochures, advertisements, personal selling etc. E. g. If a resort hotel brochure shows a beautiful room but the guests arrive and find the room to be cheap and very ordinary. Many a times people make advance bookings based on the brochures or seeing the website or some other advertisements. In such bookings sometimes advance also has to be paid. If the customer does not like the room ambience he may be left with little choice since refunds are not given by many hotels.

Which of the following is NOT an example of services offered to consumers ?

1. Consumer durables
2. Banking services
3. Airlines
4. Educational institutions

Options :

- 485584146325. 1
- 485584146326. 2
- 485584146327. 3
- 485584146328. 4

Question Number : 197 Question Id : 48558436582 Question Type : MCQ Option Shuffling : No Is Question Mandatory : No Calculator : None Response Time : N.A Think Time : N.A Minimum Instruction Time : 0

Correct Marks : 5 Wrong Marks : 1

Question Key Details :

Key	Value
Comprehension	Comp2

નીચેના આપેલા ફકરાં ને ધ્યાન પૂર્વક વાંચીને સાચા જવાબો આપો.

ગ્રાહકો માત્ર ઉત્પાદનો જ ખરીદતા નથી પરંતુ બેંકો અન્ય નાણાકીય સંસ્થાઓ, એરલાઇન્સ અને ટ્રાવેલ એજન્સીઓ, હોસ્પિટલો અને અન્ય તબીબી વ્યવસાયિકો, જાહેર ઉપયોગિતાઓ જેવી કે કચરો એકત્ર કરવા, રસ્તાઓ, ઉદ્યાનો વગેરેની સ્વચ્છતા અને જાળવણી, વીજળી, પાણી, જેવી સેવાઓ ટેલિફોન પોસ્ટ, અને ટેલિગ્રાફી શૈક્ષણિક સંસ્થાઓ વગેરે.

ગ્રાહકોને આ સેવાઓના સંદર્ભમાં ઘણી સમસ્યાઓનો સામનો કરવો પડે છે જેમ કે અતિશય બિલિંગ વધુ ચાર્જ વસૂલવામાં આવે છે પરંતુ સેવાની ડિલિવરી ન કરવી, સેવાના વચનના સ્તર અને ડિલિવર કરવામાં આવતી સેવા વચ્ચેનું અંતર, સેવાના લક્ષણોને વધુ પડતો દર્શાવવો અને ગ્રાહકને લલચાવવો, ખોટા દાવા કરવા વગેરે વગેરે.

સર્વિસ ડિલિવરી અને બાહ્ય સંદેશાવ્યવહાર વચ્ચેનો તફાવત એ ગ્રાહક સમસ્યા છે. ઉપલોક્તા અપેક્ષાઓ સેવા પ્રદાતા દ્વારા તેના બાહ્ય સંદેશાવ્યવહારમાં આપેલા વચનથી પ્રભાવિત થાય છે જે બ્રોશરો, જાહેરાતો વ્યક્તિગત વેચાણ (પર્સનલ સેલિંગ) વગેરે દ્વારા હોઈ શકે છે. દા.ત. જો કોઈ રિસોર્ટ કે હોટેલ બ્રોશરમાં સુંદર રૂમ બતાવે છે પરંતુ મહેમાન આવે છે અને રૂમ ખરાબ અને ખૂબ જ સસ્તો લાગે છે. સામાન્ય ઘણી વખત વોકો બ્રોશરના આધારે અથવા વેબસાઈટ અથવા અન્ય કેટલીક જાહેરાતો જોઈને એડવાન્સ બુકિંગ કરાવે છે. આવા બુકિંગમાં ક્યારેક એડવાન્સ પણ ચૂકવવા પડે છે. જો ગ્રાહકને રૂમનું વાતાવરણ ન ગમતું હોય તેની પાસે બહુ ઓછી પસંદગી રહી શકે છે કારણ કે ઘણી હોટેલ દ્વારા રિફંડ આપવામાં આવતું નથી.

નીચેનામાંથી કયું ગ્રાહકોને આપવામાં આવતી સેવાઓનું ઉદાહરણ નથી?

1. કન્ઝ્યુમર ફ્યુરેબલ્સ
2. બેંકિંગ સેવાઓ
3. એરલાઇન્સ
4. શૈક્ષણિક સંસ્થાઓ

Options :

485584146325. 1
485584146326. 2
485584146327. 3
485584146328. 4

Question Number : 198 Question Id : 48558436583 Question Type : MCQ Option Shuffling : No Is Question Mandatory : No Calculator : None Response Time : N.A Think Time : N.A Minimum Instruction Time : 0

Correct Marks : 5 Wrong Marks : 1

Question Key Details :

Key	Value
Comprehension	Comp2

Read the passage carefully. Attempt Question

Consumers not only purchase products but a whole gamut of services like those of banks, other financial institutions, airlines and travel agencies; hospitals and other medical practitioners; public utilities like garbage collection, cleanliness and maintenance of roads, parks, etc; electricity water telephone, post and telegraph; educational institutions and so on.

Consumers face a number of problems with regard to these services like excessive billing, being charged but not delivering the service, gap between promised level of service and service that is delivered, overstating the service attributes and enticing the consumer, making false claims and so on.

Gap between service delivery and external communication is a consumer issue. Consumer expectations are affected by promises made by the service provider in his external communication which may be through brochures, advertisements, personal selling etc. E. g. If a resort hotel brochure shows a beautiful room but the guests arrive and find the room to be cheap and very ordinary. Many a times people make advance bookings based on the brochures or seeing the website or some other advertisements. In such bookings sometimes advance also has to be paid. If the customer does not like the room ambience he may be left with little choice since refunds are not given by many hotels.

Many a times, we are required to pay a basic telephone rental charge irrespective of it being out of order. Which service related to consumer problem is depicted in this example?

1. Excessive billing
2. Being charged but not delivering the service
3. Making false claims
4. Overstating the service attributes

Options :

- 485584146329. 1
- 485584146330. 2
- 485584146331. 3
- 485584146332. 4

Question Number : 198 Question Id : 48558436583 Question Type : MCQ Option Shuffling : No Is Question Mandatory : No Calculator : None Response Time : N.A Think Time : N.A Minimum Instruction Time : 0

Correct Marks : 5 Wrong Marks : 1

Question Key Details :

Key	Value
Comprehension	Comp2

નીચેના આપેલા ફક્રાં ને ધ્યાન પૂર્વક વાંચીને સાચા જવાબો આપો.

ગ્રાહકો માત્ર ઉત્પાદનો જ ખરીદતા નથી પરંતુ બેંકો અન્ય નાણાકીય સંસ્થાઓ, એરલાઈન્સ અને ટ્રાવેલ એજન્સીઓ, હોસ્પિટલો અને અન્ય તબીબી વ્યવસાયિકો, જાહેર ઉપયોગિતાઓ જેવી કે કચરો એકત્ર કરવા, રસ્તાઓ, ઉદ્યાનો વગેરેની સ્વચ્છતા અને જાળવણી, વીજળી, પાણી, જેવી સેવાઓ ટેલિફોન પોસ્ટ, અને ટેલિગ્રાફી શૈક્ષણિક સંસ્થાઓ વગેરે.

ગ્રાહકોને આ સેવાઓના સંદર્ભમાં ઘણી સમસ્યાઓનો સામનો કરવો પડે છે જેમ કે અતિશય બિલિંગ વધુ ચાર્જ વસૂલવામાં આવે છે પરંતુ સેવાની ડિલિવરી ન કરવી, સેવાના વચનના સ્તર અને ડિલિવરી કરવામાં આવતી સેવા વચ્ચેનું અંતર, સેવાના લક્ષણોને વધુ પડતો દર્શાવવો અને ગ્રાહકને લલચાવવો, ખોટા દાવા કરવા વગેરે વગેરે.

સર્વિસ ડિલિવરી અને બાહ્ય સંદેશાવ્યવહાર વચ્ચેનો તફાવત એ ગ્રાહક સમસ્યા છે. ઉપલોક્તા અપેક્ષાઓ સેવા પ્રદાતા દ્વારા તેના બાહ્ય સંદેશાવ્યવહારમાં આપેલા વચનથી પ્રભાવિત થાય છે જે બ્રોશરો, જાહેરાતો વ્યક્તિગત વેચાણ (પર્સનલ સેલિંગ) વગેરે દ્વારા હોઈ શકે છે. દા.ત. જો કોઈ રિસોર્ટ કે હોટેલ બ્રોશરમાં સુંદર રૂમ બતાવે છે પરંતુ મહેમાન આવે છે અને રૂમ ખરાબ અને ખૂબ જ સસ્તો લાગે છે. સામાન્ય ઘણી વખત વોકો બ્રોશરના આધારે અથવા વેબસાઈટ અથવા અન્ય કેટલીક જાહેરાતો જોઈને એડવાન્સ બુકિંગ કરાવે છે. આવા બુકિંગમાં ક્યારેક એડવાન્સ પણ ચૂકવવા પડે છે. જો ગ્રાહકને રૂમનું વાતાવરણ ન ગમતું હોય તેની પાસે બહુ ઓછી પસંદગી રહી શકે છે કારણ કે ઘણી હોટેલ દ્વારા રિફંડ આપવામાં આવતું નથી.

ઘણી વખત આપડે બેંક ટેલીફોન ભાડાની ચાર્જ ચૂકવવો પડે છે. પણ ભલે તે ચાલતી ન હોય. આ ઉદાહરણમાં કઈ ઉપલોક્તા સેવા સમસ્યાને દર્શાવવામાં આવી છે ?

1. અતિશય બિલિંગ
2. વધુ ચાર્જ લેવામાં આવે પરંતુ સેવા ન આપાય
3. ખોટા દાવા કરવા
4. સેવા વિશેષતાઓનું અત્યુક્તિ

Options :

485584146329. 1
485584146330. 2
485584146331. 3
485584146332. 4

Question Number : 199 Question Id : 48558436584 Question Type : MCQ Option Shuffling : No Is Question Mandatory : No Calculator : None Response Time : N.A Think Time : N.A Minimum Instruction Time : 0

Correct Marks : 5 Wrong Marks : 1

Question Key Details :

Key	Value
Comprehension	Comp2

Read the passage carefully. Attempt Question

Consumers not only purchase products but a whole gamut of services like those of banks, other financial institutions, airlines and travel agencies; hospitals and other medical practitioners; public utilities like garbage collection, cleanliness and maintenance of roads, parks, etc; electricity water telephone, post and telegraph; educational institutions and so on.

Consumers face a number of problems with regard to these services like excessive billing, being charged but not delivering the service, gap between promised level of service and service that is delivered, overstating the service attributes and enticing the consumer, making false claims and so on.

Gap between service delivery and external communication is a consumer issue. Consumer expectations are affected by promises made by the service provider in his external communication which may be through brochures, advertisements, personal selling etc. E. g. If a resort hotel brochure shows a beautiful room but the guests arrive and find the room to be cheap and very ordinary. Many a times people make advance bookings based on the brochures or seeing the website or some other advertisements. In such bookings sometimes advance also has to be paid. If the customer does not like the room ambience he may be left with little choice since refunds are not given by many hotels.

Which of the following is NOT an example of aid used by service providers for external communication ?

1. Brochures
2. Board meeting
3. Advertisements
4. Personal selling

Options :

- 485584146333. 1
- 485584146334. 2
- 485584146335. 3
- 485584146336. 4

Question Number : 199 Question Id : 48558436584 Question Type : MCQ Option Shuffling : No Is Question Mandatory : No Calculator : None Response Time : N.A Think Time : N.A Minimum Instruction Time : 0

Correct Marks : 5 Wrong Marks : 1

Question Key Details :

Key	Value
Comprehension	Comp2

નીચેના આપેલા ફકરાં ને ધ્યાન પૂર્વક વાંચીને સાચા જવાબો આપો.

ગ્રાહકો માત્ર ઉત્પાદનો જ ખરીદતા નથી પરંતુ બેંકો અન્ય નાણાકીય સંસ્થાઓ, એરલાઈન્સ અને ટ્રાવેલ એજન્સીઓ, હોસ્પિટલો અને અન્ય તબીબી વ્યવસાયિકો, જાહેર ઉપયોગિતાઓ જેવી કે કચરો એકત્ર કરવા, રસ્તાઓ, ઉદ્યાનો વગેરેની સ્વચ્છતા અને જાળવણી, વીજળી, પાણી, જેવી સેવાઓ ટેલિફોન પોસ્ટ, અને ટેલિગ્રાફી શૈક્ષણિક સંસ્થાઓ વગેરે.

ગ્રાહકોને આ સેવાઓના સંદર્ભમાં ઘણી સમસ્યાઓનો સામનો કરવો પડે છે જેમ કે અતિશય બિલિંગ વધુ ચાર્જ વસૂલવામાં આવે છે પરંતુ સેવાની ડિલિવરી ન કરવી, સેવાના વચનના સ્તર અને ડિલિવરી કરવામાં આવતી સેવા વચ્ચેનું અંતર, સેવાના લક્ષણોને વધુ પડતો દર્શાવવો અને ગ્રાહકને લલચાવવો, ખોટા દાવા કરવા વગેરે વગેરે.

સર્વિસ ડિલિવરી અને બાહ્ય સંદેશાવ્યવહાર વચ્ચેનો તફાવત એ ગ્રાહક સમસ્યા છે. ઉપલોક્તા અપેક્ષાઓ સેવા પ્રદાતા દ્વારા તેના બાહ્ય સંદેશાવ્યવહારમાં આપેલા વચનથી પ્રભાવિત થાય છે જે બ્રોશરો, જાહેરાતો વ્યક્તિગત વેચાણ (પર્સનલ સેલિંગ) વગેરે દ્વારા હોઈ શકે છે. દા.ત. જો કોઈ રિસોર્ટ કે હોટેલ બ્રોશરમાં સુંદર રૂમ બતાવે છે પરંતુ મહેમાન આવે છે અને રૂમ ખરાબ અને ખૂબ જ સસ્તો લાગે છે. સામાન્ય ઘણી વખત વોકો બ્રોશરના આધારે અથવા વેબસાઈટ અથવા અન્ય કેટલીક જાહેરાતો જોઈને એડવાન્સ બુકિંગ કરાવે છે. આવા બુકિંગમાં ક્યારેક એડવાન્સ પણ ચૂકવવા પડે છે. જો ગ્રાહકને રૂમનું વાતાવરણ ન ગમતું હોય તેની પાસે બહુ ઓછી પસંદગી રહી શકે છે કારણ કે ઘણી હોટેલ દ્વારા રિફંડ આપવામાં આવતું નથી.

નીચેમાંથી કયા બાહ્ય સંદેશ વ્યવહાર માટે સેવા પ્રદાતાઓ દ્વારા ઉપયોગમાં લેવાતી સહાયના ઉદાહરણો નથી ?

1. બ્રોશર્સ
2. બોર્ડ-મિટિંગ
3. જાહેરાતો
4. વ્યક્તિગત વેચાણ

Options :

485584146333. 1
485584146334. 2
485584146335. 3
485584146336. 4

Question Number : 200 Question Id : 48558436585 Question Type : MCQ Option Shuffling : No Is Question Mandatory : No Calculator : None Response Time : N.A Think Time : N.A Minimum Instruction Time : 0

Correct Marks : 5 Wrong Marks : 1

Question Key Details :

Key	Value
Comprehension	Comp2

Read the passage carefully. Attempt Question

Consumers not only purchase products but a whole gamut of services like those of banks, other financial institutions, airlines and travel agencies; hospitals and other medical practitioners; public utilities like garbage collection, cleanliness and maintenance of roads, parks, etc; electricity water telephone, post and telegraph; educational institutions and so on.

Consumers face a number of problems with regard to these services like excessive billing, being charged but not delivering the service, gap between promised level of service and service that is delivered, overstating the service attributes and enticing the consumer, making false claims and so on.

Gap between service delivery and external communication is a consumer issue. Consumer expectations are affected by promises made by the service provider in his external communication which may be through brochures, advertisements, personal selling etc. E. g. If a resort hotel brochure shows a beautiful room but the guests arrive and find the room to be cheap and very ordinary. Many a times people make advance bookings based on the brochures or seeing the website or some other advertisements. In such bookings sometimes advance also has to be paid. If the customer does not like the room ambience he may be left with little choice since refunds are not given by many hotels.

A family had gone on vacation for a month but received electricity bill for the same month running in several thousands. Which service related consumer problems is depicted in this case?

1. Excessive billing
2. Being charged but not delivering the service
3. Making false claims
4. Overstating the service attributes

Options :

- 485584146337. 1
- 485584146338. 2
- 485584146339. 3
- 485584146340. 4

Question Number : 200 Question Id : 48558436585 Question Type : MCQ Option Shuffling : No Is Question Mandatory : No Calculator : None Response Time : N.A Think Time : N.A Minimum Instruction Time : 0

Correct Marks : 5 Wrong Marks : 1

Question Key Details :

Key	Value
Comprehension	Comp2

નીચેના આપેલા ફકરાં ને ધ્યાન પૂર્વક વાંચીને સાચા જવાબો આપો.

ગ્રાહકો માત્ર ઉત્પાદનો જ ખરીદતા નથી પરંતુ બેંકો અન્ય નાણાકીય સંસ્થાઓ, એરલાઈન્સ અને ટ્રાવેલ એજન્સીઓ, હોસ્પિટલો અને અન્ય તબીબી વ્યવસાયિકો, જાહેર ઉપયોગિતાઓ જેવી કે કચરો એકત્ર કરવા, રસ્તાઓ, ઉદ્યાનો વગેરેની સ્વચ્છતા અને જાળવણી, વીજળી, પાણી, જેવી સેવાઓ ટેલિફોન પોસ્ટ, અને ટેલિગ્રાફી શૈક્ષણિક સંસ્થાઓ વગેરે.

ગ્રાહકોને આ સેવાઓના સંદર્ભમાં ઘણી સમસ્યાઓનો સામનો કરવો પડે છે જેમ કે અતિશય બિલિંગ વધુ ચાર્જ વસૂલવામાં આવે છે પરંતુ સેવાની ડિલિવરી ન કરવી, સેવાના વચનના સ્તર અને ડિલિવર કરવામાં આવતી સેવા વચ્ચેનું અંતર, સેવાના લક્ષણોને વધુ પડતો દર્શાવવો અને ગ્રાહકને લલચાવવો, ખોટા દાવા કરવા વગેરે વગેરે.

સર્વિસ ડિલિવરી અને બાહ્ય સંદેશાવ્યવહાર વચ્ચેનો તફાવત એ ગ્રાહક સમસ્યા છે. ઉપસોક્તા અપેક્ષાઓ સેવા પ્રદાતા દ્વારા તેના બાહ્ય સંદેશાવ્યવહારમાં આપેલા વચનથી પ્રભાવિત થાય છે જે બ્રોશરો, જાહેરાતો વ્યક્તિગત વેચાણ (પર્સનલ સેલિંગ) વગેરે દ્વારા હોઈ શકે છે. દા.ત. જો કોઈ રિસોર્ટ કે હોટેલ બ્રોશરમાં સુંદર રૂમ બતાવે છે પરંતુ મહેમાન આવે છે અને રૂમ ખરાબ અને ખૂબ જ સસ્તો લાગે છે. સામાન્ય ઘણી વખત વોકો બ્રોશરના આધારે અથવા વેબસાઈટ અથવા અન્ય કેટલીક જાહેરાતો જોઈને એડવાન્સ બુકિંગ કરાવે છે. આવા બુકિંગમાં ક્યારેક એડવાન્સ પણ ચૂકવવા પડે છે. જો ગ્રાહકને રૂમનું વાતાવરણ ન ગમતું હોય તેની પાસે બહુ ઓછી પસંદગી રહી શકે છે કારણ કે ઘણી હોટેલ દ્વારા રિફંડ આપવામાં આવતું નથી.

એક પરિવાર એક મહિના માટે રજાઓમાં બહાર ફરવા જયું હતું પણ તે મહિનાનું તેમને લાઈટનું બિલ કેટલાય હજારો આવ્યું આ ઉદાહરણમાં કઈ ઉપસોક્તા સેવા સમસ્યાને દર્શાવવામાં આવી છે ?

1. અતિશય બિલિંગ
2. વધુ ચાર્જ લેવામાં આવે પરંતુ સેવા ન આપાય
3. ખોટા દાવા કરવાં
4. સેવા વિશેષતાઓનું અત્યુક્તિ

Options :

485584146337. 1
485584146338. 2
485584146339. 3
485584146340. 4

Teaching Aptitude

Group Number :	6
Group Id :	485584826
Group Maximum Duration :	45
Group Minimum Duration :	45
Show Attended Group? :	No
Edit Attended Group? :	No
Break time :	0
Group Marks :	200
Is this Group for Examiner? :	No
Examiner permission :	Cant View
Show Progress Bar? :	No

Teaching Aptitude

Section Id :	485584950
Section Number :	1
Section type :	Online
Mandatory or Optional :	Mandatory
Number of Questions :	50
Number of Questions to be attempted :	40
Section Marks :	200
Enable Mark as Answered Mark for Review and Clear Response :	Yes
Maximum Instruction Time :	0
Sub-Section Number :	1
Sub-Section Id :	4855842702
Question Shuffling Allowed :	Yes
Is Section Default? :	null

Question Number : 201 Question Id : 48558436586 Question Type : MCQ Option Shuffling : No Is Question Mandatory : No Calculator : None Response Time : N.A Think Time : N.A Minimum Instruction Time : 0
Correct Marks : 5 Wrong Marks : 1

Question Key Details :

Key	Value
Comprehension	MCQ

Match List I with List II

LIST I Dance		LIST II Artists	
A.	Bharatnatyam	I.	Savita Mehta
B.	Odissi	II.	Sitara Devi
C.	Kathak	III.	Yamini Krishnamurthy
D.	Mamipuri	IV.	Sanjukta Panigrahi

Choose the correct answer from the options given below:

1. A-III, B-IV, C-II, D-I
2. A-III, B-II, C-IV, D-I
3. A-II, B-IV, C-III, D-I
4. A-II, B-I, C-IV, D-III

Options :

485584146341. 1
485584146342. 2
485584146343. 3
485584146344. 4

Question Number : 201 Question Id : 48558436586 Question Type : MCQ Option Shuffling : No Is Question Mandatory : No Calculator : None Response Time : N.A Think Time : N.A Minimum Instruction Time : 0
Correct Marks : 5 Wrong Marks : 1

Question Key Details :

Key	Value
Comprehension	MCQ

સૂચિ I ને સૂચિ II સાથે જોડો.

સૂચિ I (કલાકારો)	સૂચિ II (નૃત્ય)
A. શરતનાટ્યમ	I. સિવિતા મહેતા
B. ઓડિસા	II. સીતારા દેવી
C. કથક	III. થામિની કૃષ્ણમુર્તી
D. મણીપુરી	IV. સંજોક્તા પાણીગ્રહી (Panigrahi)

નીચે આપેલા વિકલ્પોમાંથી સાચો જવાબ પસંદ કરો.

1. A-III, B-IV, C-II, D-I
2. A-III, B-II, C-IV, D-I
3. A-II, B-IV, C-III, D-I
4. A-II, B-I, C-IV, D-III

Options :

485584146341. 1
485584146342. 2
485584146343. 3
485584146344. 4

Question Number : 202 Question Id : 48558436587 Question Type : MCQ Option Shuffling : No Is Question Mandatory : No Calculator : None Response Time : N.A Think Time : N.A Minimum Instruction Time : 0

Correct Marks : 5 Wrong Marks : 1

Question Key Details :

Key	Value
Comprehension	MCQ

DD Gyan Darshan is an educational media initiative of Ministry of Education in collaboration with-

- A. Ministry of Information and Broadcasting
- B. Prasar Bharti
- C. ISRO
- D. IGNOU
- E. Ministry of Information and Communication Technology

Choose the correct answer from the options given below:

1. A, B and C only
2. A, C and D only
3. A, B, C and D only
4. B, C and E only

Options :

485584146345. 1
485584146346. 2

485584146347. 3

485584146348. 4

Question Number : 202 Question Id : 48558436587 Question Type : MCQ Option Shuffling : No Is Question Mandatory : No Calculator : None Response Time : N.A Think Time : N.A Minimum Instruction Time : 0

Correct Marks : 5 Wrong Marks : 1

Question Key Details :

Key	Value
Comprehension	MCQ

ના સાથેના સહયોગમાં શિક્ષણ મંત્રાલયનું એક શૈક્ષણિક મીડિયા પહેલા DD ગ્યાન દર્શન (DD Gyan Darshan) છે.

- A. માહિતી અને પ્રસારણનું મંત્રાલય
- B. પ્રસારણ ભારતી
- C. ISRO
- D. IGNOU
- E. માહિતી અને સંચાર તકનીકનું મંત્રાલય

નીચે આપેલા વિકલ્પોમાંથી સાચો જવાબ પસંદ કરો.

- 1. માત્ર A, B અને C
- 2. માત્ર A, C અને D
- 3. માત્ર A, B, C અને D
- 4. માત્ર B, C અને E

Options :

485584146345. 1

485584146346. 2

485584146347. 3

485584146348. 4

Question Number : 203 Question Id : 48558436588 Question Type : MCQ Option Shuffling : No Is Question Mandatory : No Calculator : None Response Time : N.A Think Time : N.A Minimum Instruction Time : 0

Correct Marks : 5 Wrong Marks : 1

Question Key Details :

Key	Value
Comprehension	MCQ

Match List I with List II

LIST I		LIST II	
A.	Thappad	I.	Women's bodies and commercial gains
B.	Mimi	II.	Quality education for all
C.	Black	III.	Domestic violence and dignity
D.	Hichki	IV.	Right to a dignified life and knowledge

Choose the correct answer from the options given below:

1. A-III, B-I, C-IV, D-II
2. A-I, B-III, C-IV, D-II
3. A-III, B-I, C-II, D-IV
4. A-III, B-II, C-IV, D-I

Options :

485584146349. 1
485584146350. 2
485584146351. 3
485584146352. 4

Question Number : 203 Question Id : 48558436588 Question Type : MCQ Option Shuffling : No Is Question Mandatory : No Calculator : None Response Time : N.A Think Time : N.A Minimum Instruction Time : 0

Correct Marks : 5 Wrong Marks : 1

Question Key Details :

Key	Value
Comprehension	MCQ

સૂચિ I ને સૂચિ II સાથે જોડો.

સૂચિ I		સૂચિ II	
A.	થપ્પડ	I.	મહિલાઓના શરીર અને તેના વ્યાપારિક વાશી.
B.	મીમી	II.	બધા જ માટે ગુણવત્તાસભર શિક્ષણ
C.	બ્લેક	III.	ઘરેલું હિંસા અને
D.	હિચકી	IV.	પ્રતિષ્ઠિત જીવન અને જ્ઞાનનો અધિકાર

નીચે આપેલા વિકલ્પોમાંથી સાચો જવાબ પસંદ કરો.

1. A-III, B-I, C-IV, D-II
2. A-I, B-III, C-IV, D-II
3. A-III, B-I, C-II, D-IV
4. A-III, B-II, C-IV, D-I

Options :

485584146349. 1
485584146350. 2
485584146351. 3

485584146352. 4

Question Number : 204 Question Id : 48558436589 Question Type : MCQ Option Shuffling : No Is Question Mandatory : No Calculator : None Response Time : N.A Think Time : N.A Minimum Instruction Time : 0

Correct Marks : 5 Wrong Marks : 1

Question Key Details :

Key	Value
Comprehension	MCQ

In the story 'Idgah' the protagonist Hamid buys a _____ for _____ from the fair.

1. pair of tongs, his grandmother
2. pair of tongs, his mother
3. clay doll, himself
4. clay doll, his grandmother

Options :

485584146353. 1
485584146354. 2
485584146355. 3
485584146356. 4

Question Number : 204 Question Id : 48558436589 Question Type : MCQ Option Shuffling : No Is Question Mandatory : No Calculator : None Response Time : N.A Think Time : N.A Minimum Instruction Time : 0

Correct Marks : 5 Wrong Marks : 1

Question Key Details :

Key	Value
Comprehension	MCQ

વાર્તા ઈદગાહમાં નાયક હમીદ મેળામાંથી _____ માટે _____ એક ખરીદે છે.

1. ચિપિયો તેની દાદી
2. ચિપિયો, તેની માતા
3. માટીની ઢીંગલી, પોતાના માટે
4. માટીની ઢીંગલી, તેની દાદી

Options :

485584146353. 1
485584146354. 2
485584146355. 3
485584146356. 4

Question Number : 205 Question Id : 48558436590 Question Type : MCQ Option Shuffling : No Is Question Mandatory : No Calculator : None Response Time : N.A Think Time : N.A Minimum Instruction Time : 0

Correct Marks : 5 Wrong Marks : 1

Question Key Details :

Key	Value
-----	-------

Who is the first female Indian scientist to receive a PhD degree in a scientific discipline?

1. Kamala Sohonie
2. Janaki Ammal
3. Anandibai Gopalrao Joshi
4. Asima Chatterjee

Options :

485584146357. 1
485584146358. 2
485584146359. 3
485584146360. 4

Question Number : 205 Question Id : 48558436590 Question Type : MCQ Option Shuffling : No Is Question Mandatory : No Calculator : None Response Time : N.A Think Time : N.A Minimum Instruction Time : 0

Correct Marks : 5 Wrong Marks : 1

Question Key Details :

Key	Value
Comprehension	MCQ

વૈજ્ઞાનિક ક્ષેત્રમાં કયા પ્રથમ મહિલા ભારતીય વૈજ્ઞાનિકે PhD મેળવી છે ?

1. કમલા સોહોની
2. જાનકી અમ્મલ
3. આનંદીબાઈ ગોપાલરાઓ જોષી
4. અસીમા ચેટરજી

Options :

485584146357. 1
485584146358. 2
485584146359. 3
485584146360. 4

Question Number : 206 Question Id : 48558436591 Question Type : MCQ Option Shuffling : No Is Question Mandatory : No Calculator : None Response Time : N.A Think Time : N.A Minimum Instruction Time : 0

Correct Marks : 5 Wrong Marks : 1

Question Key Details :

Key	Value
Comprehension	MCQ

In the film, 'Chak De India', which of the following themes was not addressed?

1. National integration
2. Child labour
3. Women Empowerment
4. Religious Harmony

Options :

485584146361. 1
485584146362. 2
485584146363. 3
485584146364. 4

Question Number : 206 Question Id : 48558436591 Question Type : MCQ Option Shuffling : No Is Question Mandatory : No Calculator : None Response Time : N.A Think Time : N.A Minimum Instruction Time : 0

Correct Marks : 5 Wrong Marks : 1

Question Key Details :

Key	Value
Comprehension	MCQ

'Chak De India' ફિલ્મ માં, નીચે આપેલામાંથી કઈ થીમ્સને સંબોધવામાં આવી ન હતી ?

1. રાષ્ટ્રિય એકતા
2. બાળ મજૂરી
3. મહિલા સશક્તિકરણ
4. પાર્મિક સંવાદિતા

Options :

485584146361. 1
485584146362. 2
485584146363. 3
485584146364. 4

Question Number : 207 Question Id : 48558436592 Question Type : MCQ Option Shuffling : No Is Question Mandatory : No Calculator : None Response Time : N.A Think Time : N.A Minimum Instruction Time : 0

Correct Marks : 5 Wrong Marks : 1

Question Key Details :

Key	Value
Comprehension	MCQ

The stories by Premchand primarily deal with:

- A. Challenges faced by children
- B. issues related to women
- C. struggles of the professional class
- D. struggles of the rural poor
- E. the character of villages in medieval India

Choose the most appropriate answer from the options given below:

- 1. B, C and E only
- 2. D, A and E only
- 3. C, D and A only
- 4. A, B and D only

Options :

- 485584146365. 1
- 485584146366. 2
- 485584146367. 3
- 485584146368. 4

Question Number : 207 Question Id : 48558436592 Question Type : MCQ Option Shuffling : No Is Question Mandatory : No Calculator : None Response Time : N.A Think Time : N.A Minimum Instruction Time : 0

Correct Marks : 5 Wrong Marks : 1

Question Key Details :

Key	Value
Comprehension	MCQ

પ્રેમચંદ દ્વારા વાતઓ મુખ્યત્વે સાથે વ્યવહાર કરે છે.

- A. બાળકો દ્વારા પડકારોનો સામનો
- B. મહિલાઓ સંબંધિત મુદ્દાઓ
- C. વ્યાવસાયિક વર્ગના સંઘર્ષો
- D. ગ્રામીણ ગરીબના સંઘર્ષો
- E. મધ્યકાલીન ભારતમાં ગામોની વાસ્તુશિક્ષા

નીચે આપેલા વિકલ્પોમાંથી સાચો જવાબ પસંદ કરો.

- 1. માત્ર B, C અને E
- 2. માત્ર D, A અને E
- 3. માત્ર C, D અને A
- 4. માત્ર A, B અને D

Options :

- 485584146365. 1
- 485584146366. 2
- 485584146367. 3

485584146368. 4

Question Number : 208 Question Id : 48558436593 Question Type : MCQ Option Shuffling : No Is Question Mandatory : No Calculator : None Response Time : N.A Think Time : N.A Minimum Instruction Time : 0

Correct Marks : 5 Wrong Marks : 1

Question Key Details :

Key	Value
Comprehension	MCQ

The central theme of the Hindi film, 'Dangal' is:

1. Urban-rural social divide in the state of Haryana
2. Women in a male- dominated sport
3. Relationship between siblings
4. Mother - daughter relationship

Options :

485584146369. 1
485584146370. 2
485584146371. 3
485584146372. 4

Question Number : 208 Question Id : 48558436593 Question Type : MCQ Option Shuffling : No Is Question Mandatory : No Calculator : None Response Time : N.A Think Time : N.A Minimum Instruction Time : 0

Correct Marks : 5 Wrong Marks : 1

Question Key Details :

Key	Value
Comprehension	MCQ

હિન્દી ફિલ્મ ઢંગલ 'Dangal' ની કેન્દ્રીય થીમ છે. તે

1. હરિયાણા રાજ્યમાં શહેરી-ગ્રામીણ વિભાજિત
2. પુરુષ પ્રભુત્વ ધરાવતી રમતમાં મહિલાઓ
3. સાઈ-બહેન વચ્ચેનો સંબંધ
4. મા-દીકરીનો સંબંધ

Options :

485584146369. 1
485584146370. 2
485584146371. 3
485584146372. 4

Question Number : 209 Question Id : 48558436594 Question Type : MCQ Option Shuffling : No Is Question Mandatory : No Calculator : None Response Time : N.A Think Time : N.A Minimum Instruction Time : 0

Correct Marks : 5 Wrong Marks : 1

Question Key Details :

Key	Value
-----	-------

Tagore's alternate school 'Shantiniketan' did NOT promote:

1. Open classrooms
2. Simplicity of the learning process
3. Teaching in the mother tongue
4. Discipline in children

Options :

485584146373. 1
 485584146374. 2
 485584146375. 3
 485584146376. 4

Question Number : 209 Question Id : 48558436594 Question Type : MCQ Option Shuffling : No Is Question Mandatory : No Calculator : None Response Time : N.A Think Time : N.A Minimum Instruction Time : 0

Correct Marks : 5 Wrong Marks : 1

Question Key Details :

Key	Value
Comprehension	MCQ

टागोरनी वैकल्पिक शाळा शांतिनिकेतन ये प्रोत्साहन आण्युं नथी ते

1. खुल्ला वर्ग
2. शीभवानी पध्दतिनी सादगी
3. मातृभाषामां शिक्षण
4. बाणकोमां शिस्त

Options :

485584146373. 1
 485584146374. 2
 485584146375. 3
 485584146376. 4

Question Number : 210 Question Id : 48558436595 Question Type : MCQ Option Shuffling : No Is Question Mandatory : No Calculator : None Response Time : N.A Think Time : N.A Minimum Instruction Time : 0

Correct Marks : 5 Wrong Marks : 1

Question Key Details :

Key	Value
Comprehension	MCQ

Which of the following is not a Children's novel?

1. Ahimsa
2. Charlie and the Chocolate Factory
3. A Thousand Splendid Suns
4. Wonder

Options :

485584146377. 1
485584146378. 2
485584146379. 3
485584146380. 4

Question Number : 210 Question Id : 48558436595 Question Type : MCQ Option Shuffling : No Is Question Mandatory : No Calculator : None Response Time : N.A Think Time : N.A Minimum Instruction Time : 0

Correct Marks : 5 Wrong Marks : 1

Question Key Details :

Key	Value
Comprehension	MCQ

નીચે આપેલામાંથી કઈ બાળકોની નવલકથા નથી ?

1. અહિંસા
2. ચાર્લી અને ચોકલેટ ફેક્ટરી
3. એ થોઉસંડ સ્પેનડીડ સનસ
4. વનડર

Options :

485584146377. 1
485584146378. 2
485584146379. 3
485584146380. 4

Question Number : 211 Question Id : 48558436596 Question Type : MCQ Option Shuffling : No Is Question Mandatory : No Calculator : None Response Time : N.A Think Time : N.A Minimum Instruction Time : 0

Correct Marks : 5 Wrong Marks : 1

Question Key Details :

Key	Value
Comprehension	MCQ

Which among the following are 'Pros' of 5G Technology?

- A. Greater Transmission Speed
- B. Overcrowded Radio frequency
- C. Increased connectivity
- D. Wider Coverage
- E. High Energy consumption

Choose the correct answer from the options given below:

- 1. B, C and E only
- 2. A, C and D only
- 3. B, C and D only
- 4. A, C and E only

Options :

- 485584146381. 1
- 485584146382. 2
- 485584146383. 3
- 485584146384. 4

Question Number : 211 Question Id : 48558436596 Question Type : MCQ Option Shuffling : No Is Question Mandatory : No Calculator : None Response Time : N.A Think Time : N.A Minimum Instruction Time : 0

Correct Marks : 5 Wrong Marks : 1

Question Key Details :

Key	Value
Comprehension	MCQ

નીચે આપેલામાંથી કઈ 5G ટેકનોલોજીના 'Pros' કાઢાયા છે ?

- A. સૌથી વધારે સંચારિત ગતિ (સ્પીડ)
- B. ગૌણ રેડિયો આવર્તન
- C. વધતી કનેક્ટિવિટી
- D. બહોળું આવરિત ક્ષેત્ર
- E. ઉચ્ચ ઊર્જા વપરાશ

નીચે આપેલા વિકલ્પોમાંથી સાચો જવાબ પસંદ કરો.

- 1. માત્ર B, C અને E
- 2. માત્ર A, C અને D
- 3. માત્ર B, C અને D
- 4. માત્ર A, C અને E

Options :

- 485584146381. 1
- 485584146382. 2
- 485584146383. 3

485584146384.4

Question Number : 212 Question Id : 48558436597 Question Type : MCQ Option Shuffling : No Is Question Mandatory : No Calculator : None Response Time : N.A Think Time : N.A Minimum Instruction Time : 0

Correct Marks : 5 Wrong Marks : 1

Question Key Details :

Key	Value
Comprehension	MCQ

The Deep web on internet which is not accessible by the regular search engines like Google Bing is known as:

1. Black web
2. Brown web
3. Dirty web
4. Dark web

Options :

485584146385. 1
485584146386. 2
485584146387. 3
485584146388. 4

Question Number : 212 Question Id : 48558436597 Question Type : MCQ Option Shuffling : No Is Question Mandatory : No Calculator : None Response Time : N.A Think Time : N.A Minimum Instruction Time : 0

Correct Marks : 5 Wrong Marks : 1

Question Key Details :

Key	Value
Comprehension	MCQ

ઇન્ટરનેટ પર Deep web કે જે ગુગલ, બીંગ જેવા રેગ્યુલર સર્ચ એન્જિનો દ્વારા વાપરી શકાતું નથી. ના તરીકે જાણીતું છે તે....

1. Black web
2. Brown web
3. Dirty web
4. Dark web

Options :

485584146385. 1
485584146386. 2
485584146387. 3
485584146388. 4

Question Number : 213 Question Id : 48558436598 Question Type : MCQ Option Shuffling : No Is Question Mandatory : No Calculator : None Response Time : N.A Think Time : N.A Minimum Instruction Time : 0

Correct Marks : 5 Wrong Marks : 1

Question Key Details :

Key	Value
-----	-------

Comprehension	MCQ
---------------	-----

In order to foster scientific temper through the means of exciting educational experiences, a teacher can take her students to a:

1. Museum
2. Music program
3. Planetarium
4. Art gallery

Options :

485584146389. 1
485584146390. 2
485584146391. 3
485584146392. 4

Question Number : 213 Question Id : 48558436598 Question Type : MCQ Option Shuffling : No Is Question Mandatory : No Calculator : None Response Time : N.A Think Time : N.A Minimum Instruction Time : 0

Correct Marks : 5 Wrong Marks : 1

Question Key Details :

Key	Value
Comprehension	MCQ

હાલના શૈક્ષણિક અનુભવોના માધ્યમ દ્વારા વૈજ્ઞાનિક સ્વભાવને પ્રોત્સાહન આપવા માટે, એક શિક્ષક તેના વિદ્યાર્થીઓને લઈ શકે છે તે...

1. મ્યુઝિયમ
2. સંગીત કાર્યક્રમ
3. પ્લેનેટોરિયમ
4. આર્ટ ગેલેરી

Options :

485584146389. 1
485584146390. 2
485584146391. 3
485584146392. 4

Question Number : 214 Question Id : 48558436599 Question Type : MCQ Option Shuffling : No Is Question Mandatory : No Calculator : None Response Time : N.A Think Time : N.A Minimum Instruction Time : 0

Correct Marks : 5 Wrong Marks : 1

Question Key Details :

Key	Value
Comprehension	MCQ

Jantar Mantar is an assembly of stone-built astronomical instruments, designed to be used with naked eyes. A visit to Jantar Mantar can help students to learn how _____.

1. astronomy was a leisure activity of people in the past.
2. astronomy was practised in buildings made with red stones.
3. people measured time when there were no standard instruments to measure the passing of time.
4. people measured time in those civilizations in which stones were used to build everything.

Options :

485584146393. 1
485584146394. 2
485584146395. 3
485584146396. 4

Question Number : 214 Question Id : 48558436599 Question Type : MCQ Option Shuffling : No Is Question Mandatory : No Calculator : None Response Time : N.A Think Time : N.A Minimum Instruction Time : 0

Correct Marks : 5 Wrong Marks : 1

Question Key Details :

Key	Value
Comprehension	MCQ

જંતરમંતર એ પથ્થરથી બનેલા ખગોળશાસ્ત્રીય સાધનોની એસેમ્બલી છે, જેનો ઉપયોગ નરી આંખે કરવામાં માટે કરવામાં આવ્યો છે. જંતરમંતરની મુલાકાત વિદ્યાર્થીઓને કેવી રીતે શીખવામાં મદદ કરી શકે છે.

1. ખગોળશાસ્ત્ર એ ભૂતકાળમાં લોકોની નવરાશની પ્રવૃત્તિ હતી.
2. લાલ પથ્થરથી બનેલી દામારતોમાં ખગોળશાસ્ત્રનો અભ્યાસ કરવામાં આવતો હતો.
3. લોકો સમય માપતા હતા જ્યારે સમય પસાર કરવા માટે કોઈ પ્રમાણભૂત સાધનો ન હતાં.
4. લોકો તે સંસ્કૃતિઓમાં સમય માપતા હતા જેમાં દરેક વસ્તુ બાંધવા માટે પથ્થરનો ઉપયોગ થતો હતો.

Options :

485584146393. 1
485584146394. 2
485584146395. 3
485584146396. 4

Question Number : 215 Question Id : 48558436600 Question Type : MCQ Option Shuffling : No Is Question Mandatory : No Calculator : None Response Time : N.A Think Time : N.A Minimum Instruction Time : 0

Correct Marks : 5 Wrong Marks : 1

Question Key Details :

Key	Value
Comprehension	MCQ

The first country to have entered the Mars orbit in its first attempt is:

1. USA
2. China
3. India
4. Russia

Options :

485584146397. 1
485584146398. 2
485584146399. 3
485584146400. 4

Question Number : 215 Question Id : 48558436600 Question Type : MCQ Option Shuffling : No Is Question Mandatory : No Calculator : None Response Time : N.A Think Time : N.A Minimum Instruction Time : 0

Correct Marks : 5 Wrong Marks : 1

Question Key Details :

Key	Value
Comprehension	MCQ

પ્રથમ દેશ કે જે તેના પ્રથમ પ્રયત્નમાં માર્સ કક્ષામાં દાખલ થયેલ છે તે

1. USA
2. ચીન
3. ભારત
4. રશિયા

Options :

485584146397. 1
485584146398. 2
485584146399. 3
485584146400. 4

Question Number : 216 Question Id : 48558436601 Question Type : MCQ Option Shuffling : No Is Question Mandatory : No Calculator : None Response Time : N.A Think Time : N.A Minimum Instruction Time : 0

Correct Marks : 5 Wrong Marks : 1

Question Key Details :

Key	Value
Comprehension	MCQ

The project of 'NASA' targeting the landing of first woman/women astronaut/s on moon is known as:

1. MOM
2. ARTEMIS
3. MISMOON
4. Moon opposition

Options :

485584146401. 1
485584146402. 2
485584146403. 3
485584146404. 4

Question Number : 216 Question Id : 48558436601 Question Type : MCQ Option Shuffling : No Is Question Mandatory : No Calculator : None Response Time : N.A Think Time : N.A Minimum Instruction Time : 0

Correct Marks : 5 Wrong Marks : 1

Question Key Details :

Key	Value
Comprehension	MCQ

ચંદ્રપર પ્રથમ મહિલા / મહિલાઓ અવકાશયાત્રી / અવકાશયાત્રીઓ ના ઉત્તરાણને લક્ષ્ય બનાવવાનો પ્રોજેક્ટ _____ તરીકે ઓળખાય છે.

1. MOM
2. ARTEMIS
3. MISMOON
4. Moon opposition

Options :

485584146401. 1
485584146402. 2
485584146403. 3
485584146404. 4

Question Number : 217 Question Id : 48558436602 Question Type : MCQ Option Shuffling : No Is Question Mandatory : No Calculator : None Response Time : N.A Think Time : N.A Minimum Instruction Time : 0

Correct Marks : 5 Wrong Marks : 1

Question Key Details :

Key	Value
Comprehension	MCQ

Which of the following is NOT true: The turning points of the graph of a function :

1. Represent local maxima and local minima
2. Represent Absolute maxima and Absolute minima
3. Represent point of inflexion
4. Represent neither local maxima nor local minima

Options :

485584146405. 1
485584146406. 2
485584146407. 3
485584146408. 4

Question Number : 217 Question Id : 48558436602 Question Type : MCQ Option Shuffling : No Is Question Mandatory : No Calculator : None Response Time : N.A Think Time : N.A Minimum Instruction Time : 0

Correct Marks : 5 Wrong Marks : 1

Question Key Details :

Key	Value
Comprehension	MCQ

નીચેનામાંથી કયુ સાચું નથી ફંક્શનના આવેખ ના વળાંકવાળા બિંદુઓ

1. સ્થાનિક મેક્સિમા અને સ્થાનિક મિનિમાને રજૂ કરે છે.
2. નિરપેક્ષ મેક્સિમા અને નિરપેક્ષ મિનિમા ને રજૂ કરે છે.
3. ઈનફ્લેક્સનના બિંદુ ને રજૂ કરે છે.
4. ન તો સ્થાનિક મેક્સિમા અને સ્થાનિક મિનિમા ને દર્શાવતો નથી.

Options :

485584146405. 1
485584146406. 2
485584146407. 3
485584146408. 4

Question Number : 218 Question Id : 48558436603 Question Type : MCQ Option Shuffling : No Is Question Mandatory : No Calculator : None Response Time : N.A Think Time : N.A Minimum Instruction Time : 0

Correct Marks : 5 Wrong Marks : 1

Question Key Details :

Key	Value
Comprehension	MCQ

Any teaching activity which puts before the students the real problems, that they have to solve for themselves, problems for which there are no easy solutions in any book _____.

1. brings them close to guide books
2. makes them skilled
3. crafts their activity
4. sharpens their intelligence

Options :

485584146409. 1
485584146410. 2
485584146411. 3
485584146412. 4

Question Number : 218 Question Id : 48558436603 Question Type : MCQ Option Shuffling : No Is Question Mandatory : No Calculator : None Response Time : N.A Think Time : N.A Minimum Instruction Time : 0

Correct Marks : 5 Wrong Marks : 1

Question Key Details :

Key	Value
Comprehension	MCQ

કોઈપણ શિક્ષણ પ્રવૃત્તિ જે વિદ્યાર્થીઓ સમક્ષ વાસ્તવિક સમસ્યાઓ રજૂ કરે છે, જે તેમણે જાતે જ હલ કરવાની હોય છે, એવી સમસ્યાઓ કે જેના માટે કોઈ પુસ્તકમાં કોઈ સરળ ઉકેલ નથી _____.

1. તેમને માગદર્શન પુસ્તકોની નજીક લાવે છે.
2. તેમને કુશળ બનાવે છે.
3. તેમની પ્રવૃત્તિ હસ્તકલા
4. તેમની બુદ્ધિને તેજ બનાવે છે.

Options :

485584146409. 1
485584146410. 2
485584146411. 3
485584146412. 4

Question Number : 219 Question Id : 48558436604 Question Type : MCQ Option Shuffling : No Is Question Mandatory : No Calculator : None Response Time : N.A Think Time : N.A Minimum Instruction Time : 0

Correct Marks : 5 Wrong Marks : 1

Question Key Details :

Key	Value
Comprehension	MCQ

A mathematics teacher told the students that her laptop and phone can run out of charge independently of each other. The probability that her phone is out of charge is 0.2 and the probability that they are both out of charge is 0.06. Find the probability that her laptop is out of charge.

1. 0.86
2. 0.4
3. 0.3
4. 0.14

Options :

485584146413. 1
485584146414. 2
485584146415. 3
485584146416. 4

Question Number : 219 Question Id : 48558436604 Question Type : MCQ Option Shuffling : No Is Question Mandatory : No Calculator : None Response Time : N.A Think Time : N.A Minimum Instruction Time : 0

Correct Marks : 5 Wrong Marks : 1

Question Key Details :

Key	Value
Comprehension	MCQ

ગણિતના શિક્ષકે કહ્યું કે તેનું લેપટોપ અને ફોન એકબીજા થી સ્વતંત્ર રીતે ચાર્જ થઈ શકે છે. તેનો ફોન ચાર્જ ન હોવાની સંભાવના 0.2 છે અને તે બંને ચાર્જ નથી તેવી સંભાવના 0.06 છે. તો લેપટોપનો ચાર્જ ઓછો હોવાની સંભાવના શોધો.

1. 0.86
2. 0.4
3. 0.3
4. 0.14

Options :

485584146413. 1
485584146414. 2
485584146415. 3
485584146416. 4

Question Number : 220 Question Id : 48558436605 Question Type : MCQ Option Shuffling : No Is Question Mandatory : No Calculator : None Response Time : N.A Think Time : N.A Minimum Instruction Time : 0

Correct Marks : 5 Wrong Marks : 1

Question Key Details :

Key	Value
Comprehension	MCQ

By explaining the theory of probability a teacher told that "For a particular E_i we can use a special formula."

Which theorem is he/she teaching?

1. Conditional Probability Theorem
2. Multiplication Theorem
3. Baye's Theorem
4. Total Probability Theorem

Options :

485584146417. 1
485584146418. 2
485584146419. 3
485584146420. 4

Question Number : 220 Question Id : 48558436605 Question Type : MCQ Option Shuffling : No Is Question Mandatory : No Calculator : None Response Time : N.A Think Time : N.A Minimum Instruction Time : 0

Correct Marks : 5 Wrong Marks : 1

Question Key Details :

Key	Value
Comprehension	MCQ

સંભાવનાના સિદ્ધાંતને સમજાવીને એક શિક્ષકે કહ્યું કે "ચોક્કસ E_i માટે આપણે વિશિષ્ટ સૂત્રનો ઉપયોગ કરી શકીએ છીએ તેણી / તે કઈ / કયો પ્રમેય શીખવે છે ?

1. શરતી સંભાવના પ્રમેય
2. ગુણાકાર પ્રમેય
3. બેયસ પ્રમેય
4. કુલ સંભાવના પ્રમેય

Options :

485584146417. 1
485584146418. 2
485584146419. 3
485584146420. 4

Question Number : 221 Question Id : 48558436606 Question Type : MCQ Option Shuffling : No Is Question Mandatory : No Calculator : None Response Time : N.A Think Time : N.A Minimum Instruction Time : 0

Correct Marks : 5 Wrong Marks : 1

Question Key Details :

Key	Value
Comprehension	MCQ

If a child draws a tree by observing the trees in her surroundings and her teacher introduced scale drawings to her, the experience can help her to develop a _____.

1. sense of aesthetics
2. sense of proportion
3. sense of perspective
4. sense of transference

Options :

485584146421. 1
485584146422. 2
485584146423. 3
485584146424. 4

Question Number : 221 Question Id : 48558436606 Question Type : MCQ Option Shuffling : No Is Question Mandatory : No Calculator : None Response Time : N.A Think Time : N.A Minimum Instruction Time : 0

Correct Marks : 5 Wrong Marks : 1

Question Key Details :

Key	Value
Comprehension	MCQ

જો બાળકને તેની આસપાસના વૃક્ષોનું અવલોકન કરીને વૃક્ષ દોરે છે અને તેના શિક્ષકે તેને સ્કેલ ડ્રોઇંગ્સ રજૂ કર્યા છે, તો અનુભવ તેને _____ વિકસાવવામાં મદદ કરી શકે છે.

1. સૌંદર્યની સૂઝ
2. પ્રમાણની સૂઝ
3. પરિપ્રેક્ષ્યની સૂઝ
4. સ્થાનાંતરણની સૂઝ

Options :

485584146421. 1
485584146422. 2
485584146423. 3
485584146424. 4

Question Number : 222 Question Id : 48558436607 Question Type : MCQ Option Shuffling : No Is Question Mandatory : No Calculator : None Response Time : N.A Think Time : N.A Minimum Instruction Time : 0

Correct Marks : 5 Wrong Marks : 1

Question Key Details :

Key	Value
Comprehension	MCQ

A lot of school children find mathematics very difficult and social sciences easy. One of the reasons for their perceptive is that

1. mathematics demands expression
2. mathematics is not common knowledge
3. mathematics demands precision
4. mathematics involves concrete images

Options :

485584146425. 1
485584146426. 2
485584146427. 3
485584146428. 4

Question Number : 222 Question Id : 48558436607 Question Type : MCQ Option Shuffling : No Is Question Mandatory : No Calculator : None Response Time : N.A Think Time : N.A Minimum Instruction Time : 0

Correct Marks : 5 Wrong Marks : 1

Question Key Details :

Key	Value
Comprehension	MCQ

ઘણા શાળાના બાળકોને ગણિત ખુબજ અપરં લાગે છે અને સામાજિક વિજ્ઞાન સરળ લાગે છે તેમની સમજસક્તિનું કારણ એ છે કે.

1. ગણિત અભિવ્યક્તિની માંગ કરે છે.
2. ગણિત સામાન્ય જ્ઞાન નથી.
3. ગણિત ચોકસાઈ માંગે છે.
4. ગણિતમાં નક્કર ચિત્રોનો સમાવેશ થાય છે.

Options :

485584146425. 1
485584146426. 2
485584146427. 3
485584146428. 4

Question Number : 223 Question Id : 48558436608 Question Type : MCQ Option Shuffling : No Is Question Mandatory : No Calculator : None Response Time : N.A Think Time : N.A Minimum Instruction Time : 0

Correct Marks : 5 Wrong Marks : 1

Question Key Details :

Key	Value
Comprehension	MCQ

National Gallery of Modern Art (NGMA) is situated in

1. London
2. California
3. Kolkata
4. New Delhi

Options :

485584146429. 1
485584146430. 2
485584146431. 3
485584146432. 4

Question Number : 223 Question Id : 48558436608 Question Type : MCQ Option Shuffling : No Is Question Mandatory : No Calculator : None Response Time : N.A Think Time : N.A Minimum Instruction Time : 0

Correct Marks : 5 Wrong Marks : 1

Question Key Details :

Key	Value
Comprehension	MCQ

નેશનલ ગેરેલી ઓફ મોડર્ન આર્ટ (NGMA) ક્યાં સ્થિત છે.

1. લંડન
2. કેલિફોર્નિયા
3. કોલકાતા
4. નવી દિલ્હી

Options :

485584146429. 1
485584146430. 2
485584146431. 3
485584146432. 4

Question Number : 224 Question Id : 48558436609 Question Type : MCQ Option Shuffling : No Is Question Mandatory : No Calculator : None Response Time : N.A Think Time : N.A Minimum Instruction Time : 0

Correct Marks : 5 Wrong Marks : 1

Question Key Details :

Key	Value
Comprehension	MCQ

Which School of Art was also known as Graeco Buddhist School of Art?

1. Amravati School of Art
2. Mathura School of Art
3. Gandhara School of Art
4. Bengal School of Art

Options :

485584146433. 1
485584146434. 2
485584146435. 3
485584146436. 4

Question Number : 224 Question Id : 48558436609 Question Type : MCQ Option Shuffling : No Is Question Mandatory : No Calculator : None Response Time : N.A Think Time : N.A Minimum Instruction Time : 0

Correct Marks : 5 Wrong Marks : 1

Question Key Details :

Key	Value
Comprehension	MCQ

કઈ આર્ટ શાળાને Graeco Buddhist School of Art તરીકે ઓળખવામાં આવે છે ?

1. અમરાવતી સ્કૂલ ઓફ આર્ટ
2. મથુરા સ્કૂલ ઓફ આર્ટ
3. ગાંધાર સ્કૂલ ઓફ આર્ટ
4. બંગાળ સ્કૂલ ઓફ આર્ટ

Options :

485584146433. 1
485584146434. 2
485584146435. 3
485584146436. 4

Question Number : 225 Question Id : 48558436610 Question Type : MCQ Option Shuffling : No Is Question Mandatory : No Calculator : None Response Time : N.A Think Time : N.A Minimum Instruction Time : 0

Correct Marks : 5 Wrong Marks : 1

Question Key Details :

Key	Value
Comprehension	MCQ

What was the profession of Partha Mitter?

1. Painter
2. Sculptor
3. Art Historian
4. Architect

Options :

485584146437. 1
485584146438. 2
485584146439. 3
485584146440. 4

Question Number : 225 Question Id : 48558436610 Question Type : MCQ Option Shuffling : No Is Question Mandatory : No Calculator : None Response Time : N.A Think Time : N.A Minimum Instruction Time : 0

Correct Marks : 5 Wrong Marks : 1

Question Key Details :

Key	Value
Comprehension	MCQ

પાર્થ મિટરનું વ્યવસાય શું હતું ?

1. પેઇન્ટર
2. શિલ્પકાર
3. કલા ઇતિહાસકાર
4. આર્કિટેક્ટ

Options :

485584146437. 1
485584146438. 2
485584146439. 3
485584146440. 4

Question Number : 226 Question Id : 48558436611 Question Type : MCQ Option Shuffling : No Is Question Mandatory : No Calculator : None Response Time : N.A Think Time : N.A Minimum Instruction Time : 0

Correct Marks : 5 Wrong Marks : 1

Question Key Details :

Key	Value
Comprehension	MCQ

'Contemporary Art in India : A perspective' is a book written by

1. Pran Nath Mago
2. Jasleen Dhamija
3. K. R. Srinivasan
4. Devi Prasad

Options :

485584146441. 1
485584146442. 2
485584146443. 3
485584146444. 4

Question Number : 226 Question Id : 48558436611 Question Type : MCQ Option Shuffling : No Is Question Mandatory : No Calculator : None Response Time : N.A Think Time : N.A Minimum Instruction Time : 0

Correct Marks : 5 Wrong Marks : 1

Question Key Details :

Key	Value
Comprehension	MCQ

ની પૈકી 'Contemporary Art in India : A perspective' પુસ્તક લખાયેલ છે.

1. પ્રાણ નાથ માંગી
2. જસલીન ધમીજા
3. કે.આર. શ્રીનિવાસન
4. દેવી પ્રસાદ

Options :

485584146441. 1
485584146442. 2
485584146443. 3
485584146444. 4

Question Number : 227 Question Id : 48558436612 Question Type : MCQ Option Shuffling : No Is Question Mandatory : No Calculator : None Response Time : N.A Think Time : N.A Minimum Instruction Time : 0

Correct Marks : 5 Wrong Marks : 1

Question Key Details :

Key	Value
Comprehension	MCQ

A technique of portraying an object to be closer than it actually is, or having less depth or distance, is called _____.

1. Depth of field
2. Foreshortening
3. Focusing
4. Illustration

Options :

485584146445. 1
485584146446. 2
485584146447. 3
485584146448. 4

Question Number : 227 Question Id : 48558436612 Question Type : MCQ Option Shuffling : No Is Question Mandatory : No Calculator : None Response Time : N.A Think Time : N.A Minimum Instruction Time : 0

Correct Marks : 5 Wrong Marks : 1

Question Key Details :

Key	Value
Comprehension	MCQ

કોઈ વસ્તુને તેના કરતા વધુ નજીક અથવા ઓછી ઊંડાઈ અથવા અંતર ધરાવતા ચિત્રને _____ કહે છે.

1. ક્ષેત્રની ઊંડાઈ
2. ફોરશોર્ટનિંગ
3. ધ્યાન કેન્દ્રીત કરે છે
4. ઉદાહરણ

Options :

485584146445. 1
485584146446. 2
485584146447. 3
485584146448. 4

Question Number : 228 Question Id : 48558436613 Question Type : MCQ Option Shuffling : No Is Question Mandatory : No Calculator : None Response Time : N.A Think Time : N.A Minimum Instruction Time : 0

Correct Marks : 5 Wrong Marks : 1

Question Key Details :

Key	Value
Comprehension	MCQ

The artwork 'Santhal Family' made by Ramkinker Vajjis is which medium/ form

1. Oil Painting
2. Mural
3. Sculpture
4. Monograph

Options :

485584146449. 1
485584146450. 2
485584146451. 3
485584146452. 4

Question Number : 228 Question Id : 48558436613 Question Type : MCQ Option Shuffling : No Is Question Mandatory : No Calculator : None Response Time : N.A Think Time : N.A Minimum Instruction Time : 0

Correct Marks : 5 Wrong Marks : 1

Question Key Details :

Key	Value
Comprehension	MCQ

Ramkinker Vajjis द्वारा बनावेल आर्टवर्क 'Santhal Family' क्युं माध्यम / स्वरुप छै ?

1. तैली पेन्टिंग
2. भीतचित्र (Mural)
3. शिल्पकृति
4. मोनोग्राफ

Options :

485584146449. 1
485584146450. 2
485584146451. 3
485584146452. 4

Question Number : 229 Question Id : 48558436614 Question Type : MCQ Option Shuffling : No Is Question Mandatory : No Calculator : None Response Time : N.A Think Time : N.A Minimum Instruction Time : 0

Correct Marks : 5 Wrong Marks : 1

Question Key Details :

Key	Value
Comprehension	MCQ

Match List I with List II

LIST I		LIST II	
A.	Intrusive igneous rock	I.	Slate
B.	Extrusive igneous rock	II.	Basalt
C.	Sedimentary rock	III.	Granite
D.	Metamorphic rock	IV.	Lime stone

Choose the correct answer from the options given below:

1. A-III, B-II, C-IV, D-I
2. A-I, B-II, C-III, D-IV
3. A-IV, B-III, C-II, D-I
4. A-II, B-III, C-I, D-IV

Options :

485584146453. 1
485584146454. 2
485584146455. 3
485584146456. 4

Question Number : 229 Question Id : 48558436614 Question Type : MCQ Option Shuffling : No Is Question Mandatory : No Calculator : None Response Time : N.A Think Time : N.A Minimum Instruction Time : 0

Correct Marks : 5 Wrong Marks : 1

Question Key Details :

Key	Value
Comprehension	MCQ

સૂચિ I ને સૂચિ II સાથે જોડો.

સૂચિ I		સૂચિ II	
A.	કર્કશ અગ્નિકૃત ખડક	I.	સ્લેટ
B.	બહાર નીકળતી અગ્નિકૃત ખડક	II.	બેસાલ્ટ
C.	જળકૃત ખડક	III.	ગ્રેનાઇટ
D.	મેટામોર્ફિક રોક	IV.	ચૂનો પથ્થર

નીચે આપેલા વિકલ્પોમાંથી સાચો જવાબ પસંદ કરો.

1. A-III, B-II, C-IV, D-I
2. A-I, B-II, C-III, D-IV
3. A-IV, B-III, C-II, D-I
4. A-II, B-III, C-I, D-IV

Options :

485584146453. 1
485584146454. 2
485584146455. 3

485584146456. 4

Question Number : 230 Question Id : 48558436615 Question Type : MCQ Option Shuffling : No Is Question Mandatory : No Calculator : None Response Time : N.A Think Time : N.A Minimum Instruction Time : 0

Correct Marks : 5 Wrong Marks : 1

Question Key Details :

Key	Value
Comprehension	MCQ

The content of teaching social sciences should aim at raising students' awareness through

1. questioning of familiar social reality
2. enacting of familiar social reality
3. developing a neutral perspective on society
4. transmitting an idea of society

Options :

485584146457. 1
485584146458. 2
485584146459. 3
485584146460. 4

Question Number : 230 Question Id : 48558436615 Question Type : MCQ Option Shuffling : No Is Question Mandatory : No Calculator : None Response Time : N.A Think Time : N.A Minimum Instruction Time : 0

Correct Marks : 5 Wrong Marks : 1

Question Key Details :

Key	Value
Comprehension	MCQ

સામાજિક વિજ્ઞાન શીખવવાનું વિષયાર્થનો હેતુ વિદ્યાર્થીઓની જાગૃતિ વિચારવાનો હોવો જોઈએ.

1. પરિચિત સામાજિક વાસ્તવિકતા વિશે પ્રશ્ન
2. પરિચિત સામાજિક વાસ્તવિકતાનું અમલીકરણ
3. સમાજ પ્રત્યે તટસ્થ દ્રષ્ટિકોણનો વિકાસ
4. સમાજના વિચારોનું પ્રસારણ

Options :

485584146457. 1
485584146458. 2
485584146459. 3
485584146460. 4

Question Number : 231 Question Id : 48558436616 Question Type : MCQ Option Shuffling : No Is Question Mandatory : No Calculator : None Response Time : N.A Think Time : N.A Minimum Instruction Time : 0

Correct Marks : 5 Wrong Marks : 1

Question Key Details :

Key	Value
-----	-------

Who wrote the book "History of British India" ?

1. James Mill
2. James Rainil
3. Warren Hastings
4. Cornwallis

Options :

485584146461. 1
485584146462. 2
485584146463. 3
485584146464. 4

Question Number : 231 Question Id : 48558436616 Question Type : MCQ Option Shuffling : No Is Question Mandatory : No Calculator : None Response Time : N.A Think Time : N.A Minimum Instruction Time : 0

Correct Marks : 5 Wrong Marks : 1

Question Key Details :

Key	Value
Comprehension	MCQ

"History of British India" પુસ્તક કોણે લખી છે ?

1. James Mill
2. James Rainil
3. Warren Hastings
4. Cornwallis

Options :

485584146461. 1
485584146462. 2
485584146463. 3
485584146464. 4

Question Number : 232 Question Id : 48558436617 Question Type : MCQ Option Shuffling : No Is Question Mandatory : No Calculator : None Response Time : N.A Think Time : N.A Minimum Instruction Time : 0

Correct Marks : 5 Wrong Marks : 1

Question Key Details :

Key	Value
Comprehension	MCQ

The school level social sciences encompass _____ concerns of society and include a wide range of content drawn from various disciplines.

1. unitary
2. overarching
3. diverse
4. sweeping

Options :

485584146465. 1
485584146466. 2
485584146467. 3
485584146468. 4

Question Number : 232 Question Id : 48558436617 Question Type : MCQ Option Shuffling : No Is Question Mandatory : No Calculator : None Response Time : N.A Think Time : N.A Minimum Instruction Time : 0

Correct Marks : 5 Wrong Marks : 1

Question Key Details :

Key	Value
Comprehension	MCQ

શાળા સ્તરના સામાજિક વિજ્ઞાનમાં _____ સમાજની ચિંતાઓનો સમાવેશ થાય છે અને તેમાં વિવિધ વિષયોમાંથી દોરવામાં આવેલી વિષયાર્થના વિશાળ શ્રોણીનો સમાવેશ થાય છે.

1. એકાત્મક
2. અતિશય
3. વિવિધ
4. સફાઈ

Options :

485584146465. 1
485584146466. 2
485584146467. 3
485584146468. 4

Question Number : 233 Question Id : 48558436618 Question Type : MCQ Option Shuffling : No Is Question Mandatory : No Calculator : None Response Time : N.A Think Time : N.A Minimum Instruction Time : 0

Correct Marks : 5 Wrong Marks : 1

Question Key Details :

Key	Value
Comprehension	MCQ

Which of the following subjects has replaced 'civics' in the school syllabus?

1. Civilization
2. Social and Political life
3. Economic and Social Life
4. Nationalism

Options :

485584146469. 1
485584146470. 2
485584146471. 3
485584146472. 4

Question Number : 233 Question Id : 48558436618 Question Type : MCQ Option Shuffling : No Is Question Mandatory : No Calculator : None Response Time : N.A Think Time : N.A Minimum Instruction Time : 0

Correct Marks : 5 Wrong Marks : 1

Question Key Details :

Key	Value
Comprehension	MCQ

નીચે આપેલામાંથી કયા વિષય શાળાના અભ્યાસક્રમ માંથી 'civics' (નાગરિકશાસ્ત્ર) ને બદલ્યું છે ?

1. સભ્યતા
2. સામાજિક અને રાજકીય જીવન
3. આર્થિક અને સામાજિક
4. રાષ્ટ્રીયતા

Options :

485584146469. 1
485584146470. 2
485584146471. 3
485584146472. 4

Question Number : 234 Question Id : 48558436619 Question Type : MCQ Option Shuffling : No Is Question Mandatory : No Calculator : None Response Time : N.A Think Time : N.A Minimum Instruction Time : 0

Correct Marks : 5 Wrong Marks : 1

Question Key Details :

Key	Value
Comprehension	MCQ

Today, if a teacher wants to teach the importance of good deeds and practicing non-violence, she can use the following as a resource:

1. Ambedkar's writings
2. Jaina teachings
3. Puranic Literature
4. Akbarnama

Options :

485584146473. 1
485584146474. 2
485584146475. 3
485584146476. 4

Question Number : 234 Question Id : 48558436619 Question Type : MCQ Option Shuffling : No Is Question Mandatory : No Calculator : None Response Time : N.A Think Time : N.A Minimum Instruction Time : 0

Correct Marks : 5 Wrong Marks : 1

Question Key Details :

Key	Value
Comprehension	MCQ

આજે જો શિક્ષકને સારા કાર્ય અને અહિંસા પ્રથા ના મહત્વ શિખવાડવા માંગતા હોય તો તેણે નીચેનામાંથી કયું સંસાધન વાપરશે ?

1. આંબેડકરના લખાણો
2. જૈન ઉપદેશ
3. પૌરાણિક સાહિત્ય
4. અકબરનામા

Options :

485584146473. 1
485584146474. 2
485584146475. 3
485584146476. 4

Question Number : 235 Question Id : 48558436620 Question Type : MCQ Option Shuffling : No Is Question Mandatory : No Calculator : None Response Time : N.A Think Time : N.A Minimum Instruction Time : 0

Correct Marks : 5 Wrong Marks : 1

Question Key Details :

Key	Value
Comprehension	MCQ

Literary devices such as simile and metaphor are used in which of the following?

1. Prose
2. Poetry
3. Grammar
4. Drama

Options :

485584146477. 1
485584146478. 2
485584146479. 3
485584146480. 4

Question Number : 235 Question Id : 48558436620 Question Type : MCQ Option Shuffling : No Is Question Mandatory : No Calculator : None Response Time : N.A Think Time : N.A Minimum Instruction Time : 0

Correct Marks : 5 Wrong Marks : 1

Question Key Details :

Key	Value
Comprehension	MCQ

નીચેમાંથી સાહિત્યિક ઉપકરણો જેમ કે simile (રૂપમા) અને metaphor (રૂપક) શેમાં વાપરવામાં આવે છે ?

1. ગદ્ય
2. કવિતા
3. વ્યાકરણ
4. સિમિ

Options :

485584146477. 1
485584146478. 2
485584146479. 3
485584146480. 4

Question Number : 236 Question Id : 48558436621 Question Type : MCQ Option Shuffling : No Is Question Mandatory : No Calculator : None Response Time : N.A Think Time : N.A Minimum Instruction Time : 0

Correct Marks : 5 Wrong Marks : 1

Question Key Details :

Key	Value
Comprehension	MCQ

'Man is a born child, his power is the power of growth.'

What is the meaning of this sentence?

1. Humans should remain stagnant
2. Humans should refrain from adding to sources of knowledge
3. Intellectual and cognitive regression are important characteristics of humans
4. Intellectual and cognitive development are important characteristics of human.

Options :

485584146481. 1
485584146482. 2
485584146483. 3
485584146484. 4

Question Number : 236 Question Id : 48558436621 Question Type : MCQ Option Shuffling : No Is Question Mandatory : No Calculator : None Response Time : N.A Think Time : N.A Minimum Instruction Time : 0

Correct Marks : 5 Wrong Marks : 1

Question Key Details :

Key	Value
Comprehension	MCQ

'Man is a born child, his power is the power of growth.'

ઉપર આપેલ વિધાનનો અર્થ શું થાય છે ?

1. માણસો એ સ્થિર રહેવું જોઈએ
2. માણસો એ જ્ઞાનના સ્ત્રોતમાં ઉમેરો કરવાનું થવું જોઈએ.
3. બૌદ્ધિક અને જ્ઞાનાત્મક રીગ્રેશન એ મનુષ્યની મહત્વપૂર્ણ વાકાબિક્તા છે.
4. બૌદ્ધિક અને જ્ઞાનાત્મક વિકાસ એ માનવીના મહત્વ પૂર્ણ લક્ષણો છે.

Options :

485584146481. 1
485584146482. 2
485584146483. 3
485584146484. 4

Question Number : 237 Question Id : 48558436622 Question Type : MCQ Option Shuffling : No Is Question Mandatory : No Calculator : None Response Time : N.A Think Time : N.A Minimum Instruction Time : 0

Correct Marks : 5 Wrong Marks : 1

Question Key Details :

Key	Value
Comprehension	MCQ

The Booker Prize 2022 was awarded to which Indian novel?

1. The Alchemist
2. A Tomb of Sand
3. Train to Pakistan
4. One Hundred Years of Solitude

Options :

485584146485. 1
485584146486. 2
485584146487. 3
485584146488. 4

Question Number : 237 Question Id : 48558436622 Question Type : MCQ Option Shuffling : No Is Question Mandatory : No Calculator : None Response Time : N.A Think Time : N.A Minimum Instruction Time : 0

Correct Marks : 5 Wrong Marks : 1

Question Key Details :

Key	Value
Comprehension	MCQ

કઈ ભારતીય નવલકથા ને 2022નું બુકર પુરસ્કાર એનાયત કરવામાં આવ્યું છે ?

1. રસાયણશાસ્ત્રી
2. રેતીની કબર
3. પાકિસ્તાનને ટ્રેન કરો
4. એકાંતના સો વર્ષ

Options :

485584146485. 1
485584146486. 2
485584146487. 3
485584146488. 4

Question Number : 238 Question Id : 48558436623 Question Type : MCQ Option Shuffling : No Is Question Mandatory : No Calculator : None Response Time : N.A Think Time : N.A Minimum Instruction Time : 0

Correct Marks : 5 Wrong Marks : 1

Question Key Details :

Key	Value
Comprehension	MCQ

What are the challenges faced by students while learning English in India?

- A. Lack of trained teachers
- B. Lack of an enabling language environment
- C. Rote memorisation of poems
- D. Objective way of testing language skills
- E. Lack of proper teaching - learning materials

Choose the correct answer from the options given below:

1. A, B, C only
2. B, C, D only
3. A, B, C, D only
4. A, B, C, D and E

Options :

- 485584146489. 1
- 485584146490. 2
- 485584146491. 3
- 485584146492. 4

Question Number : 238 Question Id : 48558436623 Question Type : MCQ Option Shuffling : No Is Question Mandatory : No Calculator : None Response Time : N.A Think Time : N.A Minimum Instruction Time : 0

Correct Marks : 5 Wrong Marks : 1

Question Key Details :

Key	Value
Comprehension	MCQ

ભારતમાં અંગ્રેજી ભણતા વિદ્યાર્થીઓ દ્વારા કયા પડકારોનો સામનો કરવામાં આવે છે ?

- A. તાલીમબંધ શિક્ષકોને અભાવ
- B. સક્ષમ ભાષાના વાતાવરણનો અભાવ
- C. કવિતાઓને યાદ કરવી
- D. ભાષા કોશલ્યોના પરીક્ષણની ઉદ્દેશ્ય રીત
- E. ભણાવવાની યોગ્ય રીત નો અભાવ-ભણવાની સામગ્રી

નીચે આપેલા વિકલ્પોમાંથી સાચો જવાબ પસંદ કરો.

1. માત્ર A, B, C
2. માત્ર B, C, D
3. માત્ર A, B, C, D
4. માત્ર A, B, C, D અને E

Options :

- 485584146489. 1
- 485584146490. 2
- 485584146491. 3

485584146492. 4

Question Number : 239 Question Id : 48558436624 Question Type : MCQ Option Shuffling : No Is Question Mandatory : No Calculator : None Response Time : N.A Think Time : N.A Minimum Instruction Time : 0

Correct Marks : 5 Wrong Marks : 1

Question Key Details :

Key	Value
Comprehension	MCQ

What is a biography?

1. An account of a person written by oneself.
2. An account of a person written by others.
3. A book of biology.
4. A historical account.

Options :

485584146493. 1
485584146494. 2
485584146495. 3
485584146496. 4

Question Number : 239 Question Id : 48558436624 Question Type : MCQ Option Shuffling : No Is Question Mandatory : No Calculator : None Response Time : N.A Think Time : N.A Minimum Instruction Time : 0

Correct Marks : 5 Wrong Marks : 1

Question Key Details :

Key	Value
Comprehension	MCQ

બાયોગ્રાફી (જિવનચરિત્ર) એટલે શું ?

1. પોતાના દ્વારા લખવામાં આવેલ અહેવાલ
2. બીજા દ્વારા લખવામાં આવેલ અહેવાલ
3. જીવવિજ્ઞાનની પુસ્તક
4. એક ઐતિહાસીક અહેવાલ

Options :

485584146493. 1
485584146494. 2
485584146495. 3
485584146496. 4

Question Number : 240 Question Id : 48558436625 Question Type : MCQ Option Shuffling : No Is Question Mandatory : No Calculator : None Response Time : N.A Think Time : N.A Minimum Instruction Time : 0

Correct Marks : 5 Wrong Marks : 1

Question Key Details :

Key	Value
-----	-------

How can grammar books be modified to minimise the difficulties learners face while learning grammar?

- A. By teaching grammar in context
- B. By including pictures and illustrations
- C. By giving more practice and examples
- D. By focusing only on the rules
- E. By translating in different languages

Choose the correct answer from the options given below:

- 1. A, B, C only
- 2. A, D, E only
- 3. C, D, E only
- 4. B, C, D only

Options :

- 485584146497. 1
- 485584146498. 2
- 485584146499. 3
- 485584146500. 4

Question Number : 240 Question Id : 48558436625 Question Type : MCQ Option Shuffling : No Is Question Mandatory : No Calculator : None Response Time : N.A Think Time : N.A Minimum Instruction Time : 0

Correct Marks : 5 Wrong Marks : 1

Question Key Details :

Key	Value
Comprehension	MCQ

વ્યાકરણ શીખતી વખતે શિખનારાઓ ને પડતી મુશ્કેલી દૂર કરવા વ્યાકરણની પુસ્તકોને કેવી રીતે સુધારવી જોઈએ ?

- A. સંદર્ભમાં વ્યાકરણ શીખવીને
- B. ચિત્ર અને ઉદાહરણોનો સમાવેશ કરીને
- C. વધુ પ્રેક્ટીસ અને ઉદાહરણો આપીને
- D. માત્ર નિયમો ઉપર ધ્યાન કેન્દ્રીત કરીને
- E. વિવિધ ભાષાઓમાં અનુવાદ કરીને

નીચે આપેલા વિકલ્પોમાંથી સાચો જવાબ પસંદ કરો.

- 1. માત્ર A, B, C
- 2. માત્ર A, D, E
- 3. માત્ર C, D, E
- 4. માત્ર B, C, D

Options :

- 485584146497. 1

485584146498. 2
485584146499. 3
485584146500. 4

Sub-Section Number : 2
Sub-Section Id : 4855842703
Question Shuffling Allowed : No
Is Section Default? : null

Question Number : 241 Question Id : 48558436626 Question Type : MCQ Option Shuffling : No Is Question Mandatory : No Calculator : None Response Time : N.A Think Time : N.A Minimum Instruction Time : 0 Correct Marks : 5 Wrong Marks : 1

Question Key Details :

Key	Value
Comprehension	Comp1

At the upper primary level, the emphasis is on engaging the learner in learning principles of science through familiar experiences, working with hands to design simple technological units and modules and continuing to learn more on environment and health through activities and surveys.

As a science teacher, you will agree that scientific concepts are learnt better if learners explore them through activities and experiments. Learners should be given opportunity to explore science in their everyday experiences. You should engage learners (preferably in groups) in meaningful investigations - particularly of the problems they perceive to be significant and important.

As a science teacher, you should encourage discussions with the teacher and peers. You can ask your learners to gather information from newspapers, knowledgeable persons in the neighborhood, and from easily available sources and discuss about them in class with peers and teachers.

Role play, skits, cooperative learning strategies should be adopted to ensure larger participation and sharing of learning outcomes. It is advised that biographical narratives of scientists and inventors can be used. You should keep in mind that efforts should be continued for development of the process skills of science.

In order to explore the orbits and distribution of electrons in orbits, which could be the most appropriate teaching strategy/method?

1. Lecture
2. Demonstration
3. Brain-storming followed by exercise
4. Numerical Practice

Options :

485584146501. 1
485584146502. 2
485584146503. 3
485584146504. 4

Question Number : 241 Question Id : 48558436626 Question Type : MCQ Option Shuffling : No Is Question Mandatory : No Calculator : None Response Time : N.A Think Time : N.A Minimum Instruction Time : 0 Correct Marks : 5 Wrong Marks : 1

Question Key Details :

Key	Value
Comprehension	Comp1

નીચે આપેલા ફક્રાં ને ધ્યાન પૂર્વક વાંચીને સાચા જવાબો આપો. પ્રશ્ન 41 થી 45.

ઉચ્ચ પ્રાથમિક સ્તરે, શીખનારને પરિચિત અનુભવો દ્વારા વિજ્ઞાનના સિદ્ધાંતો શીખવા માટે, સરળ તકનીકી એકમો અને મોડ્યુલો ડિઝાઇન કરવા હાથ વડે કામ કરવા અને પ્રવૃત્તિઓ અને સર્વેક્ષણો દ્વારા પર્યાવરણ અને આરોગ્ય વિશે વધુ શીખવાનું યાવુ રાખવા પર ભાર મૂકવામાં આવે છે.

એક વિજ્ઞાન શિક્ષક તરીકે, તમે સમતથશો કે જો વિદ્યાર્થીઓ પ્રવૃત્તિઓ અને પ્રયોગો દ્વારા તેનું અન્વેષણ કરે તો વૈજ્ઞાનિક ખ્યાલો વધુ સારી રીતે શીખી શકાય છે. શીખનારાઓને તેમના રોજિંદા અનુભવોમાં વિજ્ઞાનને શોધવાની તક આપવી જોઈએ. તમારે શીખનારાઓને (પ્રાધાન્ય જૂથોમાં) અર્થપૂર્ણ તપાસમાં જોડવા જોઈએ - ખાસ કરીને તેઓ જે સમસ્યાઓને નોંધપાત્ર અને મહત્વપૂર્ણ માને છે તેમાં.

વિજ્ઞાન શિક્ષક તરીકે, તમારે શિક્ષક અને સાથીદારો સાથે ચર્ચાઓને પ્રોત્સાહિત કરવી જોઈએ. તમે તમારા શીખનારાઓને અખબારો, પડોશીના, જાણકાર વ્યક્તિઓ અને સરળતાથી ઉપલબ્ધ સ્ત્રોતોમાંથી માહિતી એકત્ર કરવા માટે કહી શકો છો અને વર્ગમાં સાથીદારો અને શિક્ષકો સાથે તેમના વિશે ચર્ચા કરી શકો છો.

મોટી ભાગીદારી અને શીખવાના પરિણામોની વહેંચણી સુનિશ્ચિત કરવા માટે રોલ પ્લે, સ્કીટ્સ, સહકારી શિક્ષણ વ્યૂહરચના અપનાવવી જોઈએ. સલાહ આપવામાં આવે છે કે વૈજ્ઞાનિકો અને શોધકોની જીવનચરિત્રાત્મક કથાઓની ઉપયોગ કરી શકાય. તમારે ધ્યાનમાં રાખવું જોઈએ કે વિજ્ઞાનની પ્રક્રિયા કૌશલ્યના વિકાસ માટે પ્રયત્નો યાવુ રાખવા જોઈએ.

ભ્રમણકક્ષા અને ભ્રમણકક્ષામાં ઇલેક્ટ્રોનનું વિતરણ શોધવા માટે, કઈ સૌથી યોગ્ય શિક્ષણ વ્યૂહરચના / પદ્ધતી હોઈ શકે ?

1. વ્યાખ્યાન
2. પ્રદર્શન
3. બ્રેઈન-સ્ટ્રોનિંગ પછી કસરત
4. સંખ્યાત્મક પ્રેક્ટિસ

Options :

485584146501. 1
485584146502. 2
485584146503. 3
485584146504. 4

Question Number : 242 Question Id : 48558436627 Question Type : MCQ Option Shuffling : No Is Question Mandatory : No Calculator : None Response Time : N.A Think Time : N.A Minimum Instruction Time : 0

Correct Marks : 5 Wrong Marks : 1

Question Key Details :

Key	Value
Comprehension	Comp1

At the upper primary level, the emphasis is on engaging the learner in learning principles of science through familiar experiences, working with hands to design simple technological units and modules and continuing to learn more on environment and health through activities and surveys.

As a science teacher, you will agree that scientific concepts are learnt better if learners explore them through activities and experiments. Learners should be given opportunity to explore science in their everyday experiences. You should engage learners (preferably in groups) in meaningful investigations - particularly of the problems they perceive to be significant and important.

As a science teacher, you should encourage discussions with the teacher and peers. You can ask your learners to gather information from newspapers, knowledgeable persons in the neighborhood, and from easily available sources and discuss about them in class with peers and teachers.

Role play, skits, cooperative learning strategies should be adopted to ensure larger participation and sharing of learning outcomes. It is advised that biographical narratives of scientists and inventors can be used. You should keep in mind that efforts should be continued for development of the process skills of science.

Which would be the most appropriate teaching learning material to explain different types of atomic models?

1. Charts
2. Pictures
3. Video animation
4. Black board

Options :

- 485584146505. 1
- 485584146506. 2
- 485584146507. 3
- 485584146508. 4

Question Number : 242 Question Id : 48558436627 Question Type : MCQ Option Shuffling : No Is Question Mandatory : No Calculator : None Response Time : N.A Think Time : N.A Minimum Instruction Time : 0

Correct Marks : 5 Wrong Marks : 1

Question Key Details :

Key	Value
Comprehension	Comp1

નીચે આપેલા ફક્રાં ને ધ્યાન પૂર્વક વાંચીને સાચા જવાબો આપો. પ્રશ્ન 41 થી 45.

ઉચ્ચ પ્રાથમિક સ્તરે, શીખનારને પરિચિત અનુભવો દ્વારા વિજ્ઞાનના સિદ્ધાંતો શીખવા માટે, સરળ તકનીકી એકમો અને મોડ્યુલો ડિઝાઇન કરવા હાથ વડે કામ કરવા અને પ્રવૃત્તિઓ અને સર્વેક્ષણો દ્વારા પર્યાવરણ અને આરોગ્ય વિશે વધુ શીખવાનું યાવુ રાખવા પર ભાર મૂકવામાં આવે છે.

એક વિજ્ઞાન શિક્ષક તરીકે, તમે સમતથશો કે જો વિદ્યાર્થીઓ પ્રવૃત્તિઓ અને પ્રયોગો દ્વારા તેનું અન્વેષણ કરે તો વૈજ્ઞાનિક ખ્યાલો વધુ સારી રીતે શીખી શકાય છે. શીખનારાઓને તેમના રોજિંદા અનુભવોમાં વિજ્ઞાનને શોધવાની તક આપવી જોઈએ. તમારે શીખનારાઓને (પ્રાધાન્ય જૂથોમાં) અર્થપૂર્ણ તપાસમાં જોડવા જોઈએ - ખાસ કરીને તેઓ જે સમસ્યાઓને નોંધપાત્ર અને મહત્વપૂર્ણ માને છે તેમાં.

વિજ્ઞાન શિક્ષક તરીકે, તમારે શિક્ષક અને સાથીદારો સાથે ચર્ચાઓને પ્રોત્સાહિત કરવી જોઈએ. તમે તમારા શીખનારાઓને અખબારો, પડોશીના, જાણકાર વ્યક્તિઓ અને સરળતાથી ઉપલબ્ધ સ્ત્રોતોમાંથી માહિતી એકત્ર કરવા માટે કહી શકો છો અને વર્ગમાં સાથીદારો અને શિક્ષકો સાથે તેમના વિશે ચર્ચા કરી શકો છો.

મોટી ભાગીદારી અને શીખવાના પરિણામોની વહેંચણી સુનિશ્ચિત કરવા માટે રોલ પ્લે, સ્કીટ્સ, સહકારી શિક્ષણ વ્યૂહરચના અપનાવવી જોઈએ. સલાહ આપવામાં આવે છે કે વૈજ્ઞાનિકો અને શોધકોની જીવનચરિત્રાત્મક કથાઓની ઉપયોગ કરી શકાય. તમારે ધ્યાનમાં રાખવું જોઈએ કે વિજ્ઞાનની પ્રક્રિયા કૌશલ્યના વિકાસ માટે પ્રયત્નો યાવુ રાખવા જોઈએ.

વિવિધ પ્રકારના અણુ મોડેલને સમજાવવા માટે સૌથી યોગ્ય શિક્ષણ સામગ્રી કઈ હશે ?

1. ચાર્ટ
2. ચિત્રો
3. વિડિઓ એનિમેશન
4. બ્લેક બોર્ડ

Options :

485584146505. 1
485584146506. 2
485584146507. 3
485584146508. 4

Question Number : 243 Question Id : 48558436628 Question Type : MCQ Option Shuffling : No Is Question Mandatory : No Calculator : None Response Time : N.A Think Time : N.A Minimum Instruction Time : 0

Correct Marks : 5 Wrong Marks : 1

Question Key Details :

Key	Value
Comprehension	Comp1

At the upper primary level, the emphasis is on engaging the learner in learning principles of science through familiar experiences, working with hands to design simple technological units and modules and continuing to learn more on environment and health through activities and surveys.

As a science teacher, you will agree that scientific concepts are learnt better if learners explore them through activities and experiments. Learners should be given opportunity to explore science in their everyday experiences. You should engage learners (preferably in groups) in meaningful investigations - particularly of the problems they perceive to be significant and important.

As a science teacher, you should encourage discussions with the teacher and peers. You can ask your learners to gather information from newspapers, knowledgeable persons in the neighborhood, and from easily available sources and discuss about them in class with peers and teachers.

Role play, skits, cooperative learning strategies should be adopted to ensure larger participation and sharing of learning outcomes. It is advised that biographical narratives of scientists and inventors can be used. You should keep in mind that efforts should be continued for development of the process skills of science.

If a teacher is teaching types of sub-atomic particles and their charges, which could be the most appropriate tool for assessment?

1. Unit tests
2. Oral test
3. A field project
4. Crossword puzzle

Options :

- 485584146509. 1
- 485584146510. 2
- 485584146511. 3
- 485584146512. 4

Question Number : 243 Question Id : 48558436628 Question Type : MCQ Option Shuffling : No Is Question Mandatory : No Calculator : None Response Time : N.A Think Time : N.A Minimum Instruction Time : 0

Correct Marks : 5 Wrong Marks : 1

Question Key Details :

Key	Value
Comprehension	Comp1

નીચે આપેલા ફક્ત્રાં ને ધ્યાન પૂર્વક વાંચીને સાચા જવાબો આપો. પ્રશ્ન 41 થી 45.

ઉચ્ચ પ્રાથમિક સ્તરે, શીખનારને પરિચિત અનુભવો ઢ્વારા વિજ્ઞાનના સિદ્ધાંતો શીખવા માટે, સરળ તકનીકી એકમો અને મોડ્યુલો ડિઝાઇન કરવા હાથ વડે કામ કરવા અને પ્રવૃત્તિઓ અને સર્વેક્ષણો ઢ્વારા પર્યાવરણ અને આરોગ્ય વિશે વધુ શીખવાનું યાવુ રાખવા પર ભાર મૂકવામાં આવે છે.

એક વિજ્ઞાન શિક્ષક તરીકે, તમે સમતથશો કે જો વિઢાર્થીઓ પ્રવૃત્તિઓ અને પ્રયોગો ઢ્વારા તેનું અન્વેષણ કરે તો વૈજ્ઞાનિક ખ્યાલો વધુ સારી રીતે શીખી શકાય છે. શીખનારાઓને તેમના રોજિંદા અનુભવોમાં વિજ્ઞાનને શોધવાની તક આપવી જોઈએ. તમારે શીખનારાઓને (પ્રાધાન્ય જૂથોમાં) અર્થપૂર્ણ તપાસમાં જોડવા જોઈએ - ખાસ કરીને તેઓ જે સમસ્યાઓને નોંધપાત્ર અને મહત્વપૂર્ણ માને છે તેમાં.

વિજ્ઞાન શિક્ષક તરીકે, તમારે શિક્ષક અને સાથીદારો સાથે ચર્ચાઓને પ્રોત્સાહિત કરવી જોઈએ. તમે તમારા શીખનારાઓને અખબારો, પડોશીના, જાણકાર વ્યક્તિઓ અને સરળતાથી ઉપલબ્ધ સ્ત્રોતોમાંથી માહિતી એકત્ર કરવા માટે કહી શકો છો અને વર્ગમાં સાથીદારો અને શિક્ષકો સાથ તેમના વિશે ચર્ચા કરી શકો છો.

મોટી ભાગીદારી અને શીખવાના પરિણામોની વહેંચણી સુનિશ્ચિત કરવા માટે રોલ પ્લે, સ્કીટ્સ, સહકારી શિક્ષણ વ્યૂહરચના અપનાવવી જોઈએ. સલાહ આપવામાં આવે છે કે વૈજ્ઞાનિકો અને શોધકોની જીવનચરિત્રાત્મક કથાઓની ઉપયોગ કરી શકાય. તમારે ધ્યાનમાં રાખવું જોઈએ કે વિજ્ઞાનની પ્રક્રિયા કૌશલ્યના વિકાસ માટે પ્રયત્નો યાવુ રાખવા જોઈએ.

જો શિક્ષક ઉપ-પરમાણુ કણોના પ્રકારો અને તેમના શુલ્ક શીખવે છે, તો મૂલ્યાંકન માટે સૌથી યોગ્ય સાધન કયું હોઈ શકે ?

1. યુનિટ પરિક્ષાઓ
2. મૌખિક પરિક્ષાઓ
3. ફિલ્ડ પ્રોજેક્ટ
4. કોસર્વર્ડ પઝલ

Options :

485584146509. 1

485584146510. 2

485584146511. 3

485584146512. 4

Question Number : 244 Question Id : 48558436629 Question Type : MCQ Option Shuffling : No Is Question Mandatory : No Calculator : None Response Time : N.A Think Time : N.A Minimum Instruction Time : 0

Correct Marks : 5 Wrong Marks : 1

Question Key Details :

Key	Value
Comprehension	Comp1

At the upper primary level, the emphasis is on engaging the learner in learning principles of science through familiar experiences, working with hands to design simple technological units and modules and continuing to learn more on environment and health through activities and surveys.

As a science teacher, you will agree that scientific concepts are learnt better if learners explore them through activities and experiments. Learners should be given opportunity to explore science in their everyday experiences. You should engage learners (preferably in groups) in meaningful investigations - particularly of the problems they perceive to be significant and important.

As a science teacher, you should encourage discussions with the teacher and peers. You can ask your learners to gather information from newspapers, knowledgeable persons in the neighborhood, and from easily available sources and discuss about them in class with peers and teachers.

Role play, skits, cooperative learning strategies should be adopted to ensure larger participation and sharing of learning outcomes. It is advised that biographical narratives of scientists and inventors can be used. You should keep in mind that efforts should be continued for development of the process skills of science.

Which among the following objectives belongs to 'creating' cognitive process domain?

1. making a simple torch
2. explaining how a bulb glows
3. selecting suitable cell for torch
4. Indicating direction of flow of currents

Options :

- 485584146513. 1
- 485584146514. 2
- 485584146515. 3
- 485584146516. 4

Question Number : 244 Question Id : 48558436629 Question Type : MCQ Option Shuffling : No Is Question Mandatory : No Calculator : None Response Time : N.A Think Time : N.A Minimum Instruction Time : 0

Correct Marks : 5 Wrong Marks : 1

Question Key Details :

Key	Value
Comprehension	Comp1

નીચે આપેલા ફક્ત્રાં ને ધ્યાન પૂર્વક વાંચીને સાચા જવાબો આપો. પ્રશ્ન 41 થી 45.

ઉચ્ચ પ્રાથમિક સ્તરે, શીખનારને પરિચિત અનુભવો ઢ્વારા વિજ્ઞાનના સિદ્ધાંતો શીખવા માટે, સરળ તકનીકી એકમો અને મોડ્યુલો ડિઝાઇન કરવા હાથ વડે કામ કરવા અને પ્રવૃત્તિઓ અને સર્વેક્ષણો ઢ્વારા પર્યાવરણ અને આરોગ્ય વિશે વધુ શીખવાનું યાલુ રાખવા પર ભાર મૂકવામાં આવે છે.

એક વિજ્ઞાન શિક્ષક તરીકે, તમે સમતથશો કે જો વિઢ્ધાર્થીઓ પ્રવૃત્તિઓ અને પ્રયોગો ઢ્વારા તેનું અન્વેષણ કરે તો વૈજ્ઞાનિક ખ્યાલો વધુ સારી રીતે શીખી શકાય છે. શીખનારાઓને તેમના રોજિંદા અનુભવોમાં વિજ્ઞાનને શોધવાની તક આપવી જોઈએ. તમારે શીખનારાઓને (પ્રાધાન્ય જૂથોમાં) અર્થપૂર્ણ તપાસમાં જોડવા જોઈએ – ખાસ કરીને તેઓ જે સમસ્યાઓને નોંધપાત્ર અને મહત્વપૂર્ણ માને છે તેમા.

વિજ્ઞાન શિક્ષક તરીકે, તમારે શિક્ષક અને સાથીદારો સાથે ચર્ચાઓને પ્રોત્સાહિત કરવી જોઈએ. તમે તમારા શીખનારાઓને અખબારો, પડોશીના, જાણકાર વ્યક્તિઓ અને સરળતાથી ઉપલબ્ધ સ્ત્રોતોમાંથી માહિતી એકત્ર કરવા માટે કહી શકો છો અને વર્ગમાં સાથીદારો અને શિક્ષકો સાથ તેમના વિશે ચર્ચા કરી શકો છો.

મોટી ભાગીદારી અને શીખવાના પરિણામોની વહેંચણી સુનિશ્ચિત કરવા માટે રોલ પ્લે, સ્કીટ્સ, સહકારી શિક્ષણ વ્યૂહરચના અપનાવવી જોઈએ. સલાહ આપવામાં આવે છે કે વૈજ્ઞાનિકો અને શોધકોની જીવનચરિત્રાત્મક કથાઓની ઉપયોગ કરી શકાય. તમારે ધ્યાનમાં રાખવું જોઈએ કે વિજ્ઞાનની પ્રક્રિયા કોશલ્યના વિકાસ માટે પ્રયત્નો યાલુ રાખવા જોઈએ.

નીચેના ઉદ્દેશ્યોમાંથી કયો ઉદ્દેશ્ય જ્ઞાનાત્મક પ્રક્રિયા ડોમેન બનાવવા સાથે સંબંધિત છે ?

1. એક સરળ ટોચ બનાવવી
2. બલ્બ કેવી રીતે ળવો કરે છે તે સમજાવે છે
3. ટોચ માટે યોગ્ય સેવ પસંદ કરી રહ્યા છીએ
4. પ્રવાહીના પ્રવાહી દિશા સુચવે છે.

Options :

485584146513. 1
485584146514. 2
485584146515. 3
485584146516. 4

Question Number : 245 Question Id : 48558436630 Question Type : MCQ Option Shuffling : No Is Question Mandatory : No Calculator : None Response Time : N.A Think Time : N.A Minimum Instruction Time : 0

Correct Marks : 5 Wrong Marks : 1

Question Key Details :

Key	Value
Comprehension	Comp1

At the upper primary level, the emphasis is on engaging the learner in learning principles of science through familiar experiences, working with hands to design simple technological units and modules and continuing to learn more on environment and health through activities and surveys.

As a science teacher, you will agree that scientific concepts are learnt better if learners explore them through activities and experiments. Learners should be given opportunity to explore science in their everyday experiences. You should engage learners (preferably in groups) in meaningful investigations - particularly of the problems they perceive to be significant and important.

As a science teacher, you should encourage discussions with the teacher and peers. You can ask your learners to gather information from newspapers, knowledgeable persons in the neighborhood, and from easily available sources and discuss about them in class with peers and teachers.

Role play, skits, cooperative learning strategies should be adopted to ensure larger participation and sharing of learning outcomes. It is advised that biographical narratives of scientists and inventors can be used. You should keep in mind that efforts should be continued for development of the process skills of science.

Which among the following is a teacher-centered objective?

1. Children identify different types of nutrition in plants.
2. Children explain various methods of getting nutrition in plants.
3. Teachers show images of autotrophic and heterotrophic nutrition.
4. Teachers explain the definition of nutrition and make students memorize it.

Options :

- 485584146517. 1
- 485584146518. 2
- 485584146519. 3
- 485584146520. 4

Question Number : 245 Question Id : 48558436630 Question Type : MCQ Option Shuffling : No Is Question Mandatory : No Calculator : None Response Time : N.A Think Time : N.A Minimum Instruction Time : 0

Correct Marks : 5 Wrong Marks : 1

Question Key Details :

Key	Value
Comprehension	Comp1

નીચે આપેલા ફક્રાં ને ધ્યાન પૂર્વક વાંચીને સાચા જવાબો આપો. પ્રશ્ન 41 થી 45.

ઉચ્ચ પ્રાથમિક સ્તરે, શીખનારને પરિચિત અનુભવો દ્વારા વિજ્ઞાનના સિદ્ધાંતો શીખવા માટે, સરળ તકનીકી એકમો અને મોડ્યુલો ડિઝાઇન કરવા હાથ વડે કામ કરવા અને પ્રવૃત્તિઓ અને સર્વેક્ષણો દ્વારા પર્યાવરણ અને આરોગ્ય વિશે વધુ શીખવાનું યાવુ રાખવા પર ભાર મૂકવામાં આવે છે.

એક વિજ્ઞાન શિક્ષક તરીકે, તમે સમતથશો કે જો વિદ્યાર્થીઓ પ્રવૃત્તિઓ અને પ્રયોગો દ્વારા તેનું અન્વેષણ કરે તો વૈજ્ઞાનિક ખ્યાલો વધુ સારી રીતે શીખી શકાય છે. શીખનારાઓને તેમના રોજિંદા અનુભવોમાં વિજ્ઞાનને શોધવાની તક આપવી જોઈએ. તમારે શીખનારાઓને (પ્રાધાન્ય જૂથોમાં) અર્થપૂર્ણ તપાસમાં જોડવા જોઈએ - ખાસ કરીને તેઓ જે સમસ્યાઓને નોંધપાત્ર અને મહત્વપૂર્ણ માને છે તેમાં.

વિજ્ઞાન શિક્ષક તરીકે, તમારે શિક્ષક અને સાથીદારો સાથે ચર્ચાઓને પ્રોત્સાહિત કરવી જોઈએ. તમે તમારા શીખનારાઓને અખબારો, પડોશીના, જાણકાર વ્યક્તિઓ અને સરળતાથી ઉપલબ્ધ સ્ત્રોતોમાંથી માહિતી એકત્ર કરવા માટે કહી શકો છો અને વર્ગમાં સાથીદારો અને શિક્ષકો સાથે તેમના વિશે ચર્ચા કરી શકો છો.

મોટી ભાગીદારી અને શીખવાના પરિણામોની વહેંચણી સુનિશ્ચિત કરવા માટે રોલ પ્લે, સ્કીટ્સ, સહકારી શિક્ષણ વ્યૂહરચના અપનાવવી જોઈએ. સલાહ આપવામાં આવે છે કે વૈજ્ઞાનિકો અને શોધકોની જીવનચરિત્રાત્મક કથાઓની ઉપયોગ કરી શકાય. તમારે ધ્યાનમાં રાખવું જોઈએ કે વિજ્ઞાનની પ્રક્રિયા કૌશલ્યના વિકાસ માટે પ્રયત્નો યાવુ રાખવા જોઈએ.

નીચેના માંથી કયો શિક્ષક - કેન્દ્રિત ઉદ્દેશ્ય છે ?

1. બાળકો છોજમાં વિવિધ પ્રકારના પોષણને ઓળખે છે.
2. બાળકો છોડમાં પોષણ મેળવવાની વિવિધ પ્રક્રિયાઓ સમજાવે છે.
3. શિક્ષકો ઓટોટ્રોપિક અને હેટરોટ્રોપિક પોષણની છબીઓ બતાવે છે.
4. શિક્ષકો પોષણની વ્યાખ્યા સમજાવે છે અને વિદ્યાર્થીઓ ને તે યાદ કરવે છે.

Options :

485584146517. 1

485584146518. 2

485584146519. 3

485584146520. 4

Sub-Section Number :

3

Sub-Section Id :

4855842704

Question Shuffling Allowed :

No

Is Section Default? :

null

Question Number : 246 Question Id : 48558436631 Question Type : MCQ Option Shuffling : No Is Question Mandatory : No Calculator : None Response Time : N.A Think Time : N.A Minimum Instruction Time : 0

Correct Marks : 5 Wrong Marks : 1

Question Key Details :

Key	Value
Comprehension	Comp2

The spider's web occupies a much larger space than does the animal itself. The web represents the spider's field of action in acting as a trap for insects. It is constructed according to a plan. A thread secreted by the spider joins two branches, two rocks, two supports of any kind; then he weaves the rays. The construction proceeds according to a plan. Finally the spider weaves the thread around the center, going around at an always very carefully calculated distance. If the points of support are close together, the web is small. The greater the distance of one from the other, the larger the web will be. But it will always be woven with the same exactness according to a precise plan.

As is the web, so is the mind of the child constructed according to an exact plan. The abstract construction enables him to grasp what happens in his field, which was out of his range heretofore.

Depending on whether the child lives in a simple civilisation or in a complicated world, his web will be more or less large and will enable him to attain more or fewer objectives.

This is why we must respect the interior construction and its manifestations, which may at times seem useless to us. The construction is necessary. It is thanks to this work that the child enlarges his psychic field and subsequently his receptive powers.

To consider the school as the place where instruction is given is one point of view. But to consider the school as a preparation for life is another. In the latter case the school must satisfy all the needs of life.

An education that suppresses the true nature of the child is an education that leads to the development of anomalies.

Scouting, which, outside of school, has brought an organised form of life to children, has therefore always interested us.

According to the passage, what is the significance of a spider's web to a child's education?

1. Education must be spread out in all domains.
2. Field-based learning is a crucial aspect of education.
3. The administrative web poses an impediment to education.
4. A child's mind is also constructed like a web.

Options :

- 485584146521. 1
- 485584146522. 2
- 485584146523. 3
- 485584146524. 4

Question Number : 246 Question Id : 48558436631 Question Type : MCQ Option Shuffling : No Is Question Mandatory : No Calculator : None Response Time : N.A Think Time : N.A Minimum Instruction Time : 0

Correct Marks : 5 Wrong Marks : 1

Question Key Details :

Key	Value
Comprehension	Comp2

નીચે આપેલા ફરકાં ને ધ્યાન પૂર્વક વાંચીને સાચા જવાબો આપો. પ્રશ્ન 45 થી 50.

કરોળિયાનું જળું તે પ્રાણી કરતાં ઘણી મોટી જગ્યા રોકે છે. વેબ જંતુઓ માટે છટકા તરીકે કામ કરવા માટે કરોળિયા કાર્ય ક્ષેત્રનું પ્રતિનિધિત્વ કરે છે. તે યોજના અનુસાર ગણવામાં આવે છે. કરોળિયા દ્વારા ચાવ થયેલો દોરો બે શાખાઓ, બે ખડકો, કોઈ પણ પ્રકારના બે આધારને જોડે છે. પછી તે કિરણો વહાટ કરે છે. બાંધકામ યોજના મુજબ આગળ વધે છે. અંતે કરોળિયો કેન્દ્રની આસપાસ દોરાને વણાટ કરે છે. હંમેશા ખૂબ જ કાળજીપૂર્વક અને ગણતરી કરેલ અંતરે ફરે છે. જો આધારના બિંદુઓ એકત્ર થવાની નજીક હોય, તો વેબ નાનું છે. એકનું બીજાથી જેટલું અંતર હશે, વેબ તેટલું મોટું હશે. પરંતુ તે હંમેશા ચોક્કસ યોજના અનુસાર સમાન ચોકસાઈ સાથે વણવામાં આવશે.

જમ વેબ છે, તેવી જ રીતે બાળકનું પણ ચોક્કસ યોજના અનુસાર બાંધવામાં આવે છે. અમૂર્ત બાંધકામ તેને તેના ક્ષેત્રમાં શું થાય છે તે સમજવા માટે સક્ષમ બનાવે છે, જે અગાઉ તેની શ્રેણીની બહાર હતું.

બાળક સાદી સંસ્કૃતિમાં રહે છે કે જટિલ દુનિયામાં રહે છે તેના આધારે તેનું વેબ વધુ કે ઓછું મોટું હશે અને તેને વધુ કે ઓછા ઉદ્દેશ્યો પ્રાપ્ત કરવામાં સમક્ષ બનાવશે.

તેથી જ આપણે આંતરિક રચના અને તેના અભિવ્યક્તિઓનો આદર કરવો જોઈએ જે ક્યારેક આપણને નકામું લાગે છે. બાંધકામ જરૂરી છે. તે આ કાર્યને આભારી છે કે બાળક તેના માનસિક ક્ષેત્ર અને ત્યારબાદ તેની ગ્રહણ શક્તિને વિસ્તૃત કરે છે.

શાળાને એક એવી જગ્યા તરીકે ધ્યાનમાં લેવી જ્યાં સૂચના આપવામાં આવે છે. પરંતુ શાળાને જીવનની તૈયારી તરીકે ગણવી એ બીજી વાત છે. પછીના કિસ્સામાં શાળાએ જીવનની તમામ જરૂરિયાતો સંતોષવી જોઈએ.

એક શિક્ષણ જે બાળકના સાચા સ્વભાવને દબાવી દે છે તે શિક્ષણ છે જે વિસંગતતાઓના વિકાસ તરફ દોરી જાય છે. જે સ્કાઉટિંગ શાળાની બહાર, બાળકો માટે જીવનનો એક સંગઠિત માર્ગ લાવ્યો છે, તેથી અમને હંમેશા રસ રહ્યો છે.

ફરકા મુજબ બાળકના શિક્ષણ માટે કરોળિયાનાં જાળાનું શું મહત્વ છે ?

1. શિક્ષણ તમામ ક્ષેત્રોમાં ફેલાયેલું હોવું જોઈએ.
2. ક્ષેત્ર આધારીત શિક્ષણ એ શિક્ષણનું નિષ્ણાયિક પાસું છે.
3. વહીવટી વેબ શિક્ષણ માટે અવરોધ ઉભો કરે છે.
4. બાળકોનું મન પણ જાળા જેવું બનેતું છે.

Options :

485584146521. 1

485584146522. 2

485584146523. 3

485584146524. 4

Question Number : 247 Question Id : 48558436632 Question Type : MCQ Option Shuffling : No Is Question Mandatory : No Calculator : None Response Time : N.A Think Time : N.A Minimum Instruction Time : 0

Correct Marks : 5 Wrong Marks : 1

Question Key Details :

Key	Value
Comprehension	Comp2

The spider's web occupies a much larger space than does the animal itself. The web represents the spider's field of action in acting as a trap for insects. It is constructed according to a plan. A thread secreted by the spider joins two branches, two rocks, two supports of any kind; then he weaves the rays. The construction proceeds according to a plan. Finally the spider weaves the thread around the center, going around at an always very carefully calculated distance. If the points of support are close together, the web is small. The greater the distance of one from the other, the larger the web will be. But it will always be woven with the same exactness according to a precise plan.

As is the web, so is the mind of the child constructed according to an exact plan. The abstract construction enables him to grasp what happens in his field, which was out of his range heretofore.

Depending on whether the child lives in a simple civilisation or in a complicated world, his web will be more or less large and will enable him to attain more or fewer objectives.

This is why we must respect the interior construction and its manifestations, which may at times seem useless to us. The construction is necessary. It is thanks to this work that the child enlarges his psychic field and subsequently his receptive powers.

To consider the school as the place where instruction is given is one point of view. But to consider the school as a preparation for life is another. In the latter case the school must satisfy all the needs of life.

An education that suppresses the true nature of the child is an education that leads to the development of anomalies.

Scouting, which, outside of school, has brought an organised form of life to children, has therefore always interested us.

Construction of child's mind is:

1. Independent of his context
2. dependent on school's context only
3. dependent on his context
4. dependent on his family's context only

Options :

485584146525. 1

485584146526. 2

485584146527. 3

485584146528. 4

Question Number : 247 Question Id : 48558436632 Question Type : MCQ Option Shuffling : No Is Question Mandatory : No Calculator : None Response Time : N.A Think Time : N.A Minimum Instruction Time : 0

Correct Marks : 5 Wrong Marks : 1

Question Key Details :

Key	Value
Comprehension	Comp2

નીચે આપેલા ફક્રાં ને ધ્યાન પૂર્વક વાંચીને સાચા જવાબો આપો. પ્રશ્ન 45 થી 50.

કરોળિયાનું જળું તે પ્રાણી કરતાં ઘણી મોટી જગ્યા રોકે છે. વેબ જંતુઓ માટે છટકા તરીકે કામ કરવા માટે કરોળિયા કાર્ય ક્ષેત્રનું પ્રતિનિધિત્વ કરે છે. તે યોજના અનુસાર ગણવામાં આવે છે. કરોળિયા દ્વારા સ્ત્રાવ થયેલો દોરો બે શાખાઓ, બે ખડકો, કોઈ પણ પ્રકારના બે આધારને જોડે છે. પછી તે કિરણો વહાટ કરે છે. બાંધકામ યોજના મુજબ આગળ વધે છે. અંતે કરોળિયો કેન્દ્રની આસપાસ દોરાને વહાટ કરે છે. હંમેશા ખૂબ જ કાળજીપૂર્વક અને ગણતરી કરેલ અંતરે ફરે છે. જો આધારના બિંદુઓ એકત્ર થવાની નજીક હોય, તો વેબ નાનું છે. એકનું બીજાથી જેટલું અંતર હશે, વેબ તેટલું મોટું હશે. પરંતુ તે હંમેશા ચોક્કસ યોજના અનુસાર સમાન ચોકસાઈ સાથે વણવામાં આવશે.

જમ વેબ છે, તેવી જ રીતે બાળકનું પણ ચોક્કસ યોજના અનુસાર બાંધવામાં આવે છે. અમૂર્ત બાંધકામ તેને તેના ક્ષેત્રમાં શું થાય છે તે સમજવા માટે સક્ષમ બનાવે છે, જે અગાઉ તેની શ્રેણીની બહાર હતું.

બાળક સાદી સંસ્કૃતિમાં રહે છે કે જટિલ દુનિયામાં રહે છે તેના આધારે તેનું વેબ વધુ કે ઓછું મોટું હશે અને તેને વધુ કે ઓછા ઉદ્દેશ્યો પ્રાપ્ત કરવામાં સમક્ષ બનાવશે.

તેથી જ આપણે આંતરિક રચના અને તેના અભિવ્યક્તિઓનો આદર કરવો જોઈએ જે ક્યારેક આપણને નકામું લાગે છે. બાંધકામ જરૂરી છે. તે આ કાર્યને આભારી છે કે બાળક તેના માનસિક ક્ષેત્ર અને ત્યારબાદ તેની ગ્રહણ શક્તિને વિસ્તૃત કરે છે.

શાળાને એક એવી જગ્યા તરીકે ધ્યાનમાં લેવી જ્યાં સૂચના આપવામાં આવે છે. પરંતુ શાળાને જીવનની તૈયારી તરીકે ગણવી એ બીજી વાત છે. પછીના કિસ્સામાં શાળાએ જીવનની તમામ જરૂરિયાતો સંતોષવી જોઈએ.

એક શિક્ષણ જે બાળકના સાચા સ્વભાવને દબાવી દે છે તે શિક્ષણ છે જે વિસંગતતાઓના વિકાસ તરફ દોરી જાય છે. જે સ્કાઉટિંગ શાળાની બહાર, બાળકો માટે જીવનનો એક સંગઠિત માર્ગ લાવ્યો છે, તેથી અમને હંમેશા રસ રહ્યો છે.

નીચે આપેલા બે વિધાનો છે એક ને કથન A અને બીજાને કારણ R નામ આપેલ છે.

કથન A : જો બાળક સરળ સંસ્કૃતિમાં રહે તો તેનું મન તેને ઓછા ઉદ્દેશ્યો માટે સક્ષમ બનાશે.

કારણ R : બાળકના મનનું નિર્માણ તેના સંદર્ભથી સ્વતંત્ર છે.

ઉપરના વિધાનોના સંદર્ભમાં, નીચે આપેલા વિકલ્પો માંથી સૌથી વધુ બંધ બેસતો જવાબ પસંદ કરો.

1. બંને A અને R સાચા છે R એ A ની સાચી સમજૂતી છે.
2. બંને A અને R સાચા છે પણ R એ A ની સાચી સમજૂતી આપતું નથી.
3. A સાચું અને R ખોટું છે.
4. A ખોટું અને R સાચું છે.

Options :

485584146525. 1
485584146526. 2
485584146527. 3
485584146528. 4

Question Number : 248 Question Id : 48558436633 Question Type : MCQ Option Shuffling : No Is Question Mandatory : No Calculator : None Response Time : N.A Think Time : N.A Minimum Instruction Time : 0

Correct Marks : 5 Wrong Marks : 1

Question Key Details :

Key	Value
Comprehension	Comp2

The spider's web occupies a much larger space than does the animal itself. The web represents the spider's field of action in acting as a trap for insects. It is constructed according to a plan. A thread secreted by the spider joins two branches, two rocks, two supports of any kind; then he weaves the rays. The construction proceeds according to a plan. Finally the spider weaves the thread around the center, going around at an always very carefully calculated distance. If the points of support are close together, the web is small. The greater the distance of one from the other, the larger the web will be. But it will always be woven with the same exactness according to a precise plan.

As is the web, so is the mind of the child constructed according to an exact plan. The abstract construction enables him to grasp what happens in his field, which was out of his range heretofore.

Depending on whether the child lives in a simple civilisation or in a complicated world, his web will be more or less large and will enable him to attain more or fewer objectives.

This is why we must respect the interior construction and its manifestations, which may at times seem useless to us. The construction is necessary. It is thanks to this work that the child enlarges his psychic field and subsequently his receptive powers.

To consider the school as the place where instruction is given is one point of view. But to consider the school as a preparation for life is another. In the latter case the school must satisfy all the needs of life.

An education that suppresses the true nature of the child is an education that leads to the development of anomalies.

Scouting, which, outside of school, has brought an organised form of life to children, has therefore always interested us.

According to the passage, what should be the aim of education?

1. Nurture the true nature of a child.
2. Overpower the interior construction of a child's mind.
3. Restrict a child's psychic field and promote scientific temperament.
4. Provide instruction and enable the child's participation in the economy.

Options :

485584146529. 1

485584146530. 2

485584146531. 3

485584146532. 4

Question Number : 248 Question Id : 48558436633 Question Type : MCQ Option Shuffling : No Is Question Mandatory : No Calculator : None Response Time : N.A Think Time : N.A Minimum Instruction Time : 0

Correct Marks : 5 Wrong Marks : 1

Question Key Details :

Key	Value
Comprehension	Comp2

નીચે આપેલા ફક્રાં ને ધ્યાન પૂર્વક વાંચીને સાચા જવાબો આપો. પ્રશ્ન 45 થી 50.

કરોળિયાનું જળું તે પ્રાણી કરતાં ઘણી મોટી જગ્યા રોકે છે. વેબ જંતુઓ માટે છટકા તરીકે કામ કરવા માટે કરોળિયા કાર્ય ક્ષેત્રનું પ્રતિનિધિત્વ કરે છે. તે યોજના અનુસાર ગણવામાં આવે છે. કરોળિયા દ્વારા સ્ત્રાવ થયેલો દોરો બે શાખાઓ, બે ખડકો, કોઈ પણ પ્રકારના બે આધારને જોડે છે. પછી તે કિરણો વહાટ કરે છે. બાંધકામ યોજના મુજબ આગળ વધે છે. અંતે કરોળિયો કેન્દ્રની આસપાસ દોરાને વહાટ કરે છે. હંમેશા ખૂબ જ કાળજીપૂર્વક અને ગણતરી કરેલ અંતરે ફરે છે. જો આધારના બિંદુઓ એકત્ર થવાની નજીક હોય, તો વેબ નાનું છે. એકનું બીજાથી જેટલું અંતર હશે, વેબ તેટલું મોટું હશે. પરંતુ તે હંમેશા ચોક્કસ યોજના અનુસાર સમાન ચોકસાઈ સાથે વણવામાં આવશે.

જમ વેબ છે, તેવી જ રીતે બાળકનું પણ ચોક્કસ યોજના અનુસાર બાંધવામાં આવે છે. અમૂર્ત બાંધકામ તેને તેના ક્ષેત્રમાં શું થાય છે તે સમજવા માટે સક્ષમ બનાવે છે, જે અગાઉ તેની શ્રેણીની બહાર હતું.

બાળક સાદી સંસ્કૃતિમાં રહે છે કે જટિલ દુનિયામાં રહે છે તેના આધારે તેનું વેબ વધુ કે ઓછું મોટું હશે અને તેને વધુ કે ઓછા ઉદ્દેશ્યો પ્રાપ્ત કરવામાં સમક્ષ બનાવશે.

તેથી જ આપણે આંતરિક રચના અને તેના અભિવ્યક્તિઓનો આદર કરવો જોઈએ જે ક્યારેક આપણને નકામું લાગે છે. બાંધકામ જરૂરી છે. તે આ કાર્યને આભારી છે કે બાળક તેના માનસિક ક્ષેત્ર અને ત્યારબાદ તેની ગ્રહણ શક્તિને વિસ્તૃત કરે છે.

શાળાને એક એવી જગ્યા તરીકે ધ્યાનમાં લેવી જ્યાં સૂચના આપવામાં આવે છે, પરંતુ શાળાને જીવનની તૈયારી તરીકે ગણવી એ બીજી વાત છે. પછીના કિસ્સામાં શાળાએ જીવનની તમામ જરૂરિયાતો સંતોષવી જોઈએ.

એક શિક્ષણ જે બાળકના સાચા સ્વભાવને દબાવી દે છે તે શિક્ષણ છે જે વિસંગતતાઓના વિકાસ તરફ દોરી જાય છે. જે સ્કાઉટિંગ શાળાની બહાર, બાળકો માટે જીવનનો એક સંગઠિત માર્ગ લાવ્યો છે, તેથી અમને હંમેશા રસ રહ્યો છે.

ફર્કા મૂજબ શિક્ષણનો હેતુ શું છે ?

1. બાળકના સાચા સ્વભાવનું પાલન-પોષણ કરવું.
2. બાળકના મનની આંતરિક રચનાને પ્રભાવિત કરવી.
3. બાળકની ભૌતિક રચનાને મર્યાદિત કરી અને તેના વૈજ્ઞાનિક સ્વભાવને પ્રોત્સાહન આપવું.
4. સૂચના પ્રદાન કરી અને અર્થતંત્રમાં બાળકની ભાગીદારને સક્ષમ કરવી.

Options :

485584146529. 1

485584146530. 2

485584146531. 3

485584146532. 4

Question Number : 249 Question Id : 48558436634 Question Type : MCQ Option Shuffling : No Is Question Mandatory : No Calculator : None Response Time : N.A Think Time : N.A Minimum Instruction Time : 0

Correct Marks : 5 Wrong Marks : 1

Question Key Details :

Key	Value
Comprehension	Comp2

The spider's web occupies a much larger space than does the animal itself. The web represents the spider's field of action in acting as a trap for insects. It is constructed according to a plan. A thread secreted by the spider joins two branches, two rocks, two supports of any kind; then he weaves the rays. The construction proceeds according to a plan. Finally the spider weaves the thread around the center, going around at an always very carefully calculated distance. If the points of support are close together, the web is small. The greater the distance of one from the other, the larger the web will be. But it will always be woven with the same exactness according to a precise plan.

As is the web, so is the mind of the child constructed according to an exact plan. The abstract construction enables him to grasp what happens in his field, which was out of his range heretofore.

Depending on whether the child lives in a simple civilisation or in a complicated world, his web will be more or less large and will enable him to attain more or fewer objectives.

This is why we must respect the interior construction and its manifestations, which may at times seem useless to us. The construction is necessary. It is thanks to this work that the child enlarges his psychic field and subsequently his receptive powers.

To consider the school as the place where instruction is given is one point of view. But to consider the school as a preparation for life is another. In the latter case the school must satisfy all the needs of life.

An education that suppresses the true nature of the child is an education that leads to the development of anomalies.

Scouting, which, outside of school, has brought an organised form of life to children, has therefore always interested us.

In the author's view, what does a limited perspective of education do to a child?

1. Enables him to grasp concepts easily.
2. Helps him to attain more objectives.
3. Suppresses his true nature.
4. Encourages his thinking abilities.

Options :

- 485584146533. 1
- 485584146534. 2
- 485584146535. 3
- 485584146536. 4

Question Number : 249 Question Id : 48558436634 Question Type : MCQ Option Shuffling : No Is Question Mandatory : No Calculator : None Response Time : N.A Think Time : N.A Minimum Instruction Time : 0

Correct Marks : 5 Wrong Marks : 1

Question Key Details :

Key	Value
Comprehension	Comp2

નીચે આપેલા ફકરાં ને ધ્યાન પૂર્વક વાંચીને સાચા જવાબો આપો. પ્રશ્ન 45 થી 50.

કરોળિયાનું જળું તે પ્રાણી કરતાં ઘણી મોટી જગ્યા રોકે છે. વેબ જંતુઓ માટે છટકા તરીકે કામ કરવા માટે કરોળિયા કાર્ય ક્ષેત્રનું પ્રતિનિધિત્વ કરે છે. તે યોજના અનુસાર ગણવામાં આવે છે. કરોળિયા દ્વારા સ્ત્રાવ થયેલો દોરો બે શાખાઓ, બે ખડકો, કોઈ પણ પ્રકારના બે આધારને જોડે છે. પછી તે કિરણો વહાટ કરે છે. બાંધકામ યોજના મુજબ આગળ વધે છે. અંતે કરોળિયો કેન્દ્રની આસપાસ દોરાને વણાટ કરે છે. હંમેશા ખૂબ જ કાળજીપૂર્વક અને ગણતરી કરેલ અંતરે ફરે છે. જો આધારના બિંદુઓ એકત્ર થવાની નજીક હોય, તો વેબ નાનું છે. એકનું બીજાથી જેટલું અંતર હશે, વેબ તેટલું મોટું હશે. પરંતુ તે હંમેશા ચોક્કસ યોજના અનુસાર સમાન ચોકસાઈ સાથે વણવામાં આવશે.

જમ વેબ છે, તેવી જ રીતે બાળકનું પણ ચોક્કસ યોજના અનુસાર બાંધવામાં આવે છે. અમૂર્ત બાંધકામ તેને તેના ક્ષેત્રમાં શું થાય છે તે સમજવા માટે સક્ષમ બનાવે છે, જે અગાઉ તેની શ્રેણીની બહાર હતું.

બાળક સાદી સંસ્કૃતિમાં રહે છે કે જટિલ દુનિયામાં રહે છે તેના આધારે તેનું વેબ વધુ કે ઓછું મોટું હશે અને તેને વધુ કે ઓછા ઉદ્દેશ્યો પ્રાપ્ત કરવામાં સમક્ષ બનાવશે.

તેથી જ આપણે આંતરિક રચના અને તેના અભિવ્યક્તિઓનો આદર કરવો જોઈએ જે ક્યારેક આપણને નકામું લાગે છે. બાંધકામ જરૂરી છે. તે આ કાર્યને આભારી છે કે બાળક તેના માનસિક ક્ષેત્ર અને ત્યારબાદ તેની ગ્રહણ શક્તિને વિસ્તૃત કરે છે.

શાળાને એક એવી જગ્યા તરીકે ધ્યાનમાં લેવી જ્યાં સૂચના આપવામાં આવે છે, પરંતુ શાળાને જીવનની તૈયારી તરીકે ગણવી એ બીજી વાત છે. પછીના કિસ્સામાં શાળાએ જીવનની તમામ જરૂરિયાતો સંતોષવી જોઈએ.

એક શિક્ષણ જે બાળકના સાચા સ્વભાવને દબાવી દે છે તે શિક્ષણ છે જે વિસંગતતાઓના વિકાસ તરફ દોરી જાય છે. જે સ્કાઉટિંગ શાળાની બહાર, બાળકો માટે જીવનનો એક સંગઠિત માર્ગ લાવ્યો છે, તેથી અમને હંમેશા રસ રહ્યો છે.

લેખકના મતે, શિક્ષણનો મર્યાદિત પરિપ્રેક્ષ્ય બાળક માટે શું કરે છે ?

1. તેને ખ્યાલોને સરળતાથી સમજવા માટે સક્ષમ બનાવે છે.
2. તેને વધુ હેતુઓ પ્રાપ્ત કરવામાં મદદ કરે છે.
3. તેના સાચા સ્વભાવ (પ્રકૃતિ)ને દબાવી દે છે.
4. તેની વિચારવાની ક્ષમતાને પ્રોત્સાહન આપે છે.

Options :

485584146533. 1

485584146534. 2

485584146535. 3

485584146536. 4

Question Number : 250 Question Id : 48558436635 Question Type : MCQ Option Shuffling : No Is Question Mandatory : No Calculator : None Response Time : N.A Think Time : N.A Minimum Instruction Time : 0

Correct Marks : 5 Wrong Marks : 1

Question Key Details :

Key	Value
Comprehension	Comp2

The spider's web occupies a much larger space than does the animal itself. The web represents the spider's field of action in acting as a trap for insects. It is constructed according to a plan. A thread secreted by the spider joins two branches, two rocks, two supports of any kind; then he weaves the rays. The construction proceeds according to a plan. Finally the spider weaves the thread around the center, going around at an always very carefully calculated distance. If the points of support are close together, the web is small. The greater the distance of one from the other, the larger the web will be. But it will always be woven with the same exactness according to a precise plan.

As is the web, so is the mind of the child constructed according to an exact plan. The abstract construction enables him to grasp what happens in his field, which was out of his range heretofore.

Depending on whether the child lives in a simple civilisation or in a complicated world, his web will be more or less large and will enable him to attain more or fewer objectives.

This is why we must respect the interior construction and its manifestations, which may at times seem useless to us. The construction is necessary. It is thanks to this work that the child enlarges his psychic field and subsequently his receptive powers.

To consider the school as the place where instruction is given is one point of view. But to consider the school as a preparation for life is another. In the latter case the school must satisfy all the needs of life.

An education that suppresses the true nature of the child is an education that leads to the development of anomalies.

Scouting, which, outside of school, has brought an organised form of life to children, has therefore always interested us.

Which of the following are characteristics of the construction of a child's mind ?

- A. Moving outside the school restricts a child's mind.
- B. A child's mind is constructed according to a precise plan.
- C. Organisation of a child's mind may affect its receptive abilities.
- D. Inhibiting a child's true nature can lead to the development of abnormality.
- E. Concrete construction enables it to access different kinds of knowledge.

Choose the correct answer from the options given below:

1. A, C and D only
2. A, B and C only
3. B, C and D only
4. B, C, D and E only

Options :

- 485584146537. 1
- 485584146538. 2
- 485584146539. 3
- 485584146540. 4

Question Number : 250 Question Id : 48558436635 Question Type : MCQ Option Shuffling : No Is Question Mandatory : No Calculator : None Response Time : N.A Think Time : N.A Minimum Instruction Time : 0

Correct Marks : 5 Wrong Marks : 1

Question Key Details :

Key	Value
Comprehension	Comp2

નીચે આપેલા ફકરાં ને ધ્યાન પૂર્વક વાંચીને સાચા જવાબો આપો. પ્રશ્ન 45 થી 50.

કરોળિયાનું જળું તે પ્રાણી કરતાં ઘણી મોટી જગ્યા રોકે છે. વેબ જંતુઓ માટે છટકા તરીકે કામ કરવા માટે કરોળિયા કાર્ય ક્ષેત્રનું પ્રતિનિધિત્વ કરે છે. તે યોજના અનુસાર ગણવામાં આવે છે. કરોળિયા દ્વારા સ્ત્રાવ થયેલો દોરો બે શાખાઓ, બે ખડકો, કોઈ પણ પ્રકારના બે આધારને જોડે છે. પછી તે કિરણો વણાટ કરે છે. બાંધકામ યોજના મુજબ આગળ વધે છે. અંતે કરોળિયો કેન્દ્રની આસપાસ દોરાને વણાટ કરે છે. હંમેશા ખૂબ જ કાળજીપૂર્વક અને ગણતરી કરેલ અંતરે ફરે છે. જો આધારના બિંદુઓ એકત્ર થવાની નજીક હોય, તો વેબ નાનું છે. એકનું બીજાથી જેટલું અંતર હશે, વેબ તેટલું મોટું હશે. પરંતુ તે હંમેશા ચોક્કસ યોજના અનુસાર સમાન ચોક્કસાઈ સાથે વણવામાં આવશે.

જેમ વેબ છે, તેવી જ રીતે બાળકનું પણ ચોક્કસ યોજના અનુસાર બાંધવામાં આવે છે. અમૂર્ત બાંધકામ તેને તેના ક્ષેત્રમાં શું થાય છે તે સમજવા માટે સક્ષમ બનાવે છે, જે અગાઉ તેની શ્રેણીની બહાર હતું.

બાળક સાદી સંસ્કૃતિમાં રહે છે કે જટિલ દુનિયામાં રહે છે તેના આધારે, તેનું વેબ વધુ કે ઓછું મોટું હશે અને તેને વધુ કે ઓછા ઉદ્દેશ્યો પ્રાપ્ત કરવામાં સમક્ષ બનાવશે.

તેથી જ આપણે આંતરિક રચના અને તેના અભિવ્યક્તિઓનો આદર કરવો જોઈએ જે ક્યારેક આપણને નકામું વાગે છે. બાંધકામ જરૂરી છે. તે આ કાર્યને આભારી છે કે બાળક તેના માનસિક ક્ષેત્ર અને ત્યારબાદ તેની ગ્રહણ શક્તિને વિસ્તૃત કરે છે.

શાળાને એક એવી જગ્યા તરીકે ધ્યાનમાં લેવી જ્યાં સૂચના આપવામાં આવે છે. પરંતુ શાળાને જીવનની તેવારી તરીકે ગણવી એ બીજી વાત છે. પછીના કિસ્સામાં શાળાએ જીવનની તમામ જરૂરિયાતો સંતોષવી જોઈએ.

એક શિક્ષણ જે બાળકના સાચા સ્વભાવને દબાવી દે છે તે શિક્ષણ છે જે વિસંગતતાઓના વિકાસ તરફ દોરી જાય છે. જે સ્કાઉટિંગ શાળાની બહાર, બાળકો માટે જીવનનો એક સંગઠિત માર્ગ લાવ્યો છે. તેથી અમને હંમેશા રસ રહ્યો છે.

નીચે આપેલા માંથી કયાં બાળકના મગજ (મન)ની બંધારણની લક્ષણીકતાઓ છે ?

- A. શાળાની બહાર જવાનું બાળકના મનને પ્રતિબંધિત કરે છે.
- B. બાળકના મનનું નિર્માણ ચોક્કસ યોજના પ્રમાણે થાય છે.
- C. બાળકના મનની રચના તેની ગ્રહણ ક્ષમતાને અસર કરી શકે છે.
- D. બાળકના સાચા સ્વભાવને અટકાવવાથી વિકાસમાં અસાધારણતાના પરિણામી શકે છે.
- E. કઠોર નિર્માણ તેને વિવિધ પ્રકારના જ્ઞાનને મેળવવા માટે સક્ષમ બનાવે છે.

નીચે આપેલા વિકલ્પોમાંથી સાચો જવાબ પસંદ કરો.

- 1. માત્ર A, C અને D
- 2. માત્ર A, B અને C
- 3. માત્ર B, C અને D
- 4. માત્ર B, C, D અને E

Options :

- 485584146537. 1
- 485584146538. 2
- 485584146539. 3
- 485584146540. 4