

National Testing Agency

Question Paper Name : 22S3
Subject Name : 22Jun2023 Shift3 Subject Combination 1
Creation Date : 2023-06-22 20:03:07
Duration : 270
Total Marks : 1200
Display Marks: Yes

Tibetan

Group Number : 1
Group Id : 485584821
Group Maximum Duration : 45
Group Minimum Duration : 45
Show Attended Group? : No
Edit Attended Group? : No
Break time : 0
Group Marks : 200
Is this Group for Examiner? : No
Examiner permission : Cant View
Show Progress Bar? : No

Tibetan

Section Id : 485584945
Section Number : 1
Section type : Online
Mandatory or Optional : Mandatory
Number of Questions : 50
Number of Questions to be attempted : 40
Section Marks : 200
Enable Mark as Answered Mark for Review and Clear Response : Yes
Maximum Instruction Time : 0
Sub-Section Number : 1
Sub-Section Id : 4855842686
Question Shuffling Allowed : No
Is Section Default? : null
Sub-Section Number : 2
Sub-Section Id : 4855842687
Question Shuffling Allowed : No
Is Section Default? : null
Sub-Section Number : 3
Sub-Section Id : 4855842688
Question Shuffling Allowed : No
Is Section Default? : null
Sub-Section Number : 4
Sub-Section Id : 4855842689
Question Shuffling Allowed : Yes

Is Section Default? : null

Biology

Group Number : 2
Group Id : 485584822
Group Maximum Duration : 45
Group Minimum Duration : 45
Show Attended Group? : No
Edit Attended Group? : No
Break time : 0
Group Marks : 200
Is this Group for Examiner? : No
Examiner permission : Cant View
Show Progress Bar? : No

Biology

Section Id : 485584946
Section Number : 1
Section type : Online
Mandatory or Optional : Mandatory
Number of Questions : 50
Number of Questions to be attempted : 40
Section Marks : 200
Enable Mark as Answered Mark for Review and Clear Response : Yes
Maximum Instruction Time : 0
Sub-Section Number : 1
Sub-Section Id : 4855842690
Question Shuffling Allowed : Yes
Is Section Default? : null

Question Number : 1 Question Id : 48558436386 Question Type : MCQ Option Shuffling : No Is Question Mandatory : No
Calculator : None Response Time : N.A Think Time : N.A Minimum Instruction Time : 0

Correct Marks : 5 Wrong Marks : 1

Question Key Details :

Key	Value
Comprehension	MCQ

Number of chromosomes found in rice gamete is:

1. 8
2. 10
3. 12
4. 14

Options :

485584145541. 1
485584145542. 2
485584145543. 3

Question Number : 1 Question Id : 48558436386 Question Type : MCQ Option Shuffling : No Is Question Mandatory : No Calculator : None Response Time : N.A Think Time : N.A Minimum Instruction Time : 0

Correct Marks : 5 Wrong Marks : 1

Question Key Details :

Key	Value
Comprehension	MCQ

ಅಕ್ಕಿಯ (ಭತ್ತ) ಯುಗ್ಮಕದಲ್ಲಿ ಕಂಡುಬರುವ ವರ್ಣತಂತು (ಕ್ರೋಮೋಸೋಮ್) ಗಳ ಸಂಖ್ಯೆ:

1. 8
2. 10
3. 12
4. 14

Options :

485584145541. 1
485584145542. 2
485584145543. 3
485584145544. 4

Question Number : 2 Question Id : 48558436387 Question Type : MCQ Option Shuffling : No Is Question Mandatory : No Calculator : None Response Time : N.A Think Time : N.A Minimum Instruction Time : 0

Correct Marks : 5 Wrong Marks : 1

Question Key Details :

Key	Value
Comprehension	MCQ

Match List I with List II

LIST I (Vegetative propagules)		LIST II (Example)	
A.	Leaf buds	I.	Water hyacinth
B.	Rhizome	II.	Agave
C.	Offset	III.	Ginger
D.	Bulbil	IV.	Bryophyllum

Choose the correct answer from the options given below:

1. A-III, B-IV, C-II, D-I
2. A-II, B-IV, C-I, D-III
3. A-IV, B-III, C-I, D-II
4. A-III, B-II, C-IV, D-I

Options :

485584145545. 1
485584145546. 2
485584145547. 3

Question Number : 2 Question Id : 48558436387 Question Type : MCQ Option Shuffling : No Is Question Mandatory : No Calculator : None Response Time : N.A Think Time : N.A Minimum Instruction Time : 0

Correct Marks : 5 Wrong Marks : 1

Question Key Details :

Key	Value
Comprehension	MCQ

ಪಟ್ಟಿ - I ಅನ್ನು ಪಟ್ಟಿ - IIರ ಜೊತೆ ಹೊಂದಿಸಿ.

ಪಟ್ಟಿ - I (ಸಸ್ಯಕ ಪ್ರಸರಣಗಳು)		ಪಟ್ಟಿ - II (ಉದಾಹರಣೆ)	
A.	ಎಲೆ ಮೊಗ್ಗುಗಳು	I.	ಜಲ ಹಯಾಸಿಂಧ್
B.	ಬೇರುಕಾಂಡ (ರೈಜೋಮ್)	II.	ಆಗವ್
C.	ಮೊಳಕೆ	III.	ಶುಂಠಿ
D.	ಬುಲ್‌ಬುಲ್	IV.	ಬ್ಯೂಲೋಫಿಲಂ

ಈ ಕೆಳಗಿನ ಆಯ್ಕೆಗಳಿಂದ ಸರಿಯಾದ ಉತ್ತರವನ್ನು ಆರಿಸಿ:

1. A-III, B-IV, C-II, D-I
2. A-II, B-IV, C-I, D-III
3. A-IV, B-III, C-I, D-II
4. A-III, B-II, C-IV, D-I

Options :

485584145545. 1
485584145546. 2
485584145547. 3
485584145548. 4

Question Number : 3 Question Id : 48558436388 Question Type : MCQ Option Shuffling : No Is Question Mandatory : No Calculator : None Response Time : N.A Think Time : N.A Minimum Instruction Time : 0

Correct Marks : 5 Wrong Marks : 1

Question Key Details :

Key	Value
Comprehension	MCQ

Residual and persistent nucellus present in some seeds is called:

1. Seed coat
2. Pericarp
3. Perisperm
4. Achene

Options :

485584145549. 1
485584145550. 2

485584145551. 3

485584145552. 4

Question Number : 3 Question Id : 48558436388 Question Type : MCQ Option Shuffling : No Is Question Mandatory : No Calculator : None Response Time : N.A Think Time : N.A Minimum Instruction Time : 0

Correct Marks : 5 Wrong Marks : 1

Question Key Details :

Key	Value
Comprehension	MCQ

ಕೆಲವು ಬೀಜಗಳಲ್ಲಿ ಉಪಸ್ಥಿತವಿರುವ ಪಳೆಯುಳಿಕೆ ಮತ್ತು ಕಠಿಣ (ನಿರಂತರ) ನ್ಯೂಸೆಲಸ್‌ಗಳನ್ನು ಈ ರೀತಿ ಕರೆಯುತ್ತಾರೆ:

1. ಬೀಜ ಕವಚ
2. ಫಲಭಿತ್ತಿ
3. ಪರಿಭ್ರೂಣ ಪೋಷಕ
4. ಎಕೀನ್

Options :

485584145549. 1

485584145550. 2

485584145551. 3

485584145552. 4

Question Number : 4 Question Id : 48558436389 Question Type : MCQ Option Shuffling : No Is Question Mandatory : No Calculator : None Response Time : N.A Think Time : N.A Minimum Instruction Time : 0

Correct Marks : 5 Wrong Marks : 1

Question Key Details :

Key	Value
Comprehension	MCQ

The wall layer which provides nourishment to the developing pollen grains is called:

1. Epidermis
2. Endothecium
3. Middle Layer
4. Tapetum

Options :

485584145553. 1

485584145554. 2

485584145555. 3

485584145556. 4

Question Number : 4 Question Id : 48558436389 Question Type : MCQ Option Shuffling : No Is Question Mandatory : No Calculator : None Response Time : N.A Think Time : N.A Minimum Instruction Time : 0

Correct Marks : 5 Wrong Marks : 1

Question Key Details :

Key	Value
Comprehension	MCQ

ಬೆಳೆಯುತ್ತಿರುವ ಪರಾಗ (ಪುಷ್ಪಧೂಳಿ) ಕಣಗಳಿಗೆ ಪೋಷಕಾಂಶವನ್ನು ನೀಡುವ ಭಿತ್ತಿ ಪದರವನ್ನು ಹೀಗೆ ಕರೆಯುತ್ತಾರೆ:

1. ಹೊರಕವಚ
2. ಎಂಡೋಥೀಸಿಯಂ
3. ಮಧ್ಯದ ಪದರ
4. ಟೆಪಿಟಂ

Options :

485584145553. 1
 485584145554. 2
 485584145555. 3
 485584145556. 4

Question Number : 5 Question Id : 48558436390 Question Type : MCQ Option Shuffling : No Is Question Mandatory : No Calculator : None Response Time : N.A Think Time : N.A Minimum Instruction Time : 0

Correct Marks : 5 Wrong Marks : 1

Question Key Details :

Key	Value
Comprehension	MCQ

Spermiation is the _____.

1. Process of release of sperms from the seminiferous tubules
2. Process of formation of sperms
3. Transformation of spermatids into sperms
4. Process of formation of spermatogonia

Options :

485584145557. 1
 485584145558. 2
 485584145559. 3
 485584145560. 4

Question Number : 5 Question Id : 48558436390 Question Type : MCQ Option Shuffling : No Is Question Mandatory : No Calculator : None Response Time : N.A Think Time : N.A Minimum Instruction Time : 0

Correct Marks : 5 Wrong Marks : 1

Question Key Details :

Key	Value
Comprehension	MCQ

ವೀರ್ಯೀಕರಣ ಎಂದರೆ _____ :

1. ವೀರ್ಯವಾಹಕ ನಾಳಗಳಿಂದ ವೀರ್ಯಾಣುಗಳು ಬಿಡುಗಡೆಯಾಗುವ ಪ್ರಕ್ರಿಯೆ
2. ವೀರ್ಯಾಣುಗಳ ರಚನೆಯ ಪ್ರಕ್ರಿಯೆ
3. ಸ್ವಮರ್ಪ ಟೆಜ್‌ಗಳು ವೀರ್ಯಾಣುಗಳಾಗಿ ಪರಿವರ್ತನೆ ಹೊಂದುವುದು
4. ಸ್ವಮರ್ಪ ಟೆಜ್‌ಗೋನಿಯಾ ರಚನೆಯ ಪ್ರಕ್ರಿಯೆ

Options :

485584145557. 1
485584145558. 2
485584145559. 3
485584145560. 4

Question Number : 6 Question Id : 48558436391 Question Type : MCQ Option Shuffling : No Is Question Mandatory : No Calculator : None Response Time : N.A Think Time : N.A Minimum Instruction Time : 0

Correct Marks : 5 Wrong Marks : 1

Question Key Details :

Key	Value
Comprehension	MCQ

Which of the following hormones are secreted by placenta?

- A. hCG
- B. hPL
- C. Estrogens
- D. Progestogens
- E. Relaxin

Choose the correct answer from the options given below:

1. A, B, and E only
2. A, B, C and E only
3. A, B, D and E only
4. A, B, C and D only

Options :

485584145561. 1
485584145562. 2
485584145563. 3
485584145564. 4

Question Number : 6 Question Id : 48558436391 Question Type : MCQ Option Shuffling : No Is Question Mandatory : No Calculator : None Response Time : N.A Think Time : N.A Minimum Instruction Time : 0

Correct Marks : 5 Wrong Marks : 1

Question Key Details :

Key	Value
Comprehension	MCQ

ಪ್ರಾಸಂಗಿಕವಾಗಿ ಈ ಕೆಳಗಿನ ಯಾವ ಹಾರ್ಮೋನ್‌ಗಳು ಸ್ರವಿಸುತ್ತವೆ?

- A. HCG
- B. HPL
- C. ಈಸ್ಟ್ರೋಜೆನ್‌ಗಳು
- D. ಪ್ರೊಜೆಸ್ಟಿರಾನ್‌ಗಳು
- E. ರಿಲಾಕ್ಸಿನ್

ಈ ಕೆಳಗಿನ ಆಯ್ಕೆಗಳಿಂದ ಸರಿಯಾದ ಉತ್ತರವನ್ನು ಆರಿಸಿ:

1. A, B ಮತ್ತು E ಮಾತ್ರ
2. A, B ಮತ್ತು E ಮಾತ್ರ
3. A, B, D ಮತ್ತು E ಮಾತ್ರ
4. A, B, C ಮತ್ತು D ಮಾತ್ರ

Options :

- 485584145561. 1
- 485584145562. 2
- 485584145563. 3
- 485584145564. 4

Question Number : 7 Question Id : 48558436392 Question Type : MCQ Option Shuffling : No Is Question Mandatory : No Calculator : None Response Time : N.A Think Time : N.A Minimum Instruction Time : 0

Correct Marks : 5 Wrong Marks : 1

Question Key Details :

Key	Value
Comprehension	MCQ

Which of the following disease is completely curable if detected early?

1. Genital herpes
2. HIV infections
3. Hepatitis-B
4. Trichomoniasis

Options :

- 485584145565. 1
- 485584145566. 2
- 485584145567. 3
- 485584145568. 4

Question Number : 7 Question Id : 48558436392 Question Type : MCQ Option Shuffling : No Is Question Mandatory : No Calculator : None Response Time : N.A Think Time : N.A Minimum Instruction Time : 0

Correct Marks : 5 Wrong Marks : 1

Question Key Details :

Key	Value
-----	-------

ಬಹುಬೇಗನೆ ಪತ್ತೆ ಹಚ್ಚಿದಲ್ಲಿ ಈ ಕೆಳಗಿನ ಯಾವ ಕಾಯಿಲೆಗಳನ್ನು ಸಂಪೂರ್ಣವಾಗಿ ಗುಣಪಡಿಸಬಹುದು?

1. ಜನನಾಂಗದ ಸರ್ಪಸುತ್ತು
2. HIV ಸೋಂಕುಗಳು
3. ಹೆಪಟೈಟಿಸ್- ಬಿ
4. ಟ್ರೈಕೋಮೋನಿಯಾಸಿಸ್

Options :

485584145565. 1
485584145566. 2
485584145567. 3
485584145568. 4

Question Number : 8 Question Id : 48558436393 Question Type : MCQ Option Shuffling : No Is Question Mandatory : No Calculator : None Response Time : N.A Think Time : N.A Minimum Instruction Time : 0

Correct Marks : 5 Wrong Marks : 1

Question Key Details :

Key	Value
Comprehension	MCQ

Identify the terminal methods to prevent pregnancy.

- A. Tubectomy
- B. Vasectomy
- C. IUDs
- D. Cervical caps

Choose the correct answer from the options given below:

1. A and D only
2. A and C only
3. B and D only
4. A and B only

Options :

485584145569. 1
485584145570. 2
485584145571. 3
485584145572. 4

Question Number : 8 Question Id : 48558436393 Question Type : MCQ Option Shuffling : No Is Question Mandatory : No Calculator : None Response Time : N.A Think Time : N.A Minimum Instruction Time : 0

Correct Marks : 5 Wrong Marks : 1

Question Key Details :

Key	Value

ಗರ್ಭಧಾರಣೆಯನ್ನು ತಡೆಗಟ್ಟುವ ಸಂತಾನಹರಣ ವಿಧಾನಗಳನ್ನು ಗುರುತಿಸಿ.

- A. ಟ್ಯುಬೆಕ್ಯೂಮಿ
- B. ವಾಸೆಕ್ಯೂಮಿ
- C. IUD ಗಳು
- D. ಗರ್ಭಕಂಠದ ಕ್ಯಾಪ್‌ಗಳು

ಈ ಕೆಳಗಿನ ಆಯ್ಕೆಗಳಿಂದ ಸರಿಯಾದ ಉತ್ತರವನ್ನು ಆರಿಸಿ:

- 1. A ಮತ್ತು D ಮಾತ್ರ
- 2. A ಮತ್ತು C ಮಾತ್ರ
- 3. B ಮತ್ತು D ಮಾತ್ರ
- 4. A ಮತ್ತು B ಮಾತ್ರ

Options :

- 485584145569. 1
- 485584145570. 2
- 485584145571. 3
- 485584145572. 4

Question Number : 9 Question Id : 48558436394 Question Type : MCQ Option Shuffling : No Is Question Mandatory : No Calculator : None Response Time : N.A Think Time : N.A Minimum Instruction Time : 0

Correct Marks : 5 Wrong Marks : 1

Question Key Details :

Key	Value
Comprehension	MCQ

The person with karyotype $44+XXY$ is suffering from:

- 1. Down's Syndrome
- 2. Klinefelter's Syndrome
- 3. Turner's Syndrome
- 4. Edward's Syndrome

Options :

- 485584145573. 1
- 485584145574. 2
- 485584145575. 3
- 485584145576. 4

Question Number : 9 Question Id : 48558436394 Question Type : MCQ Option Shuffling : No Is Question Mandatory : No Calculator : None Response Time : N.A Think Time : N.A Minimum Instruction Time : 0

Correct Marks : 5 Wrong Marks : 1

Question Key Details :

Key	Value
-----	-------

ಕಾರಿಯೋಟೈಪ್ 44+XXY ಇರುವ ವ್ಯಕ್ತಿಯು ಇದರಿಂದ ಬಳಲುತ್ತಿರುತ್ತಾನೆ.

1. ಡೌನ್‌ನ ಸಿಂಡ್ರೋಮ್
2. ಕ್ಲೈಫೆಲ್ಟರ್‌ನ ಸಿಂಡ್ರೋಮ್
3. ಟರ್ನರ್‌ನ ಸಿಂಡ್ರೋಮ್
4. ಎಡ್ವರ್ಡ್‌ನ ಸಿಂಡ್ರೋಮ್

Options :

485584145573. 1
485584145574. 2
485584145575. 3
485584145576. 4

Question Number : 10 Question Id : 48558436395 Question Type : MCQ Option Shuffling : No Is Question Mandatory : No Calculator : None Response Time : N.A Think Time : N.A Minimum Instruction Time : 0

Correct Marks : 5 Wrong Marks : 1

Question Key Details :

Key	Value
Comprehension	MCQ

Select the mendelian disorders from the following:

- A. Thalassemia
- B. Turner's Syndrome
- C. Cystic Fibrosis
- D. Sickle cell anaemia

Choose the *correct answer* from the options given below:

1. B and D only
2. A, C and D only
3. B, C and D only
4. A and D only

Options :

485584145577. 1
485584145578. 2
485584145579. 3
485584145580. 4

Question Number : 10 Question Id : 48558436395 Question Type : MCQ Option Shuffling : No Is Question Mandatory : No Calculator : None Response Time : N.A Think Time : N.A Minimum Instruction Time : 0

Correct Marks : 5 Wrong Marks : 1

Question Key Details :

Key	Value
Comprehension	MCQ

ಈ ಕೆಳಗಿನವುಗಳಿಂದ ಮೆಂಡೆಲಿಯನ್ ಅಸ್ವಾಸ್ಥ್ಯಗಳನ್ನು ಆಯ್ಕೆ ಮಾಡಿ:

- A. ಥೆಲಸ್ಟೇಮಿಯಾ
- B. ಟರ್ನರ್‌ನ ಸಿಂಡ್ರೋಮ್
- C. ಸಿಸ್ಟಿಕ್ ಫೈಬ್ರೋಸಿಸ್
- D. ಸಿಕಲ್ ಸೆಲ್ ರಕ್ತಹೀನತೆ

ಈ ಕೆಳಗಿನ ಆಯ್ಕೆಗಳಿಂದ ಸರಿಯಾದ ಉತ್ತರವನ್ನು ಆರಿಸಿ:

- 1. B, D ಮಾತ್ರ
- 2. A, C, D ಮಾತ್ರ
- 3. B, C, D ಮಾತ್ರ
- 4. A, D ಮಾತ್ರ

Options :

- 485584145577. 1
- 485584145578. 2
- 485584145579. 3
- 485584145580. 4

Question Number : 11 Question Id : 48558436396 Question Type : MCQ Option Shuffling : No Is Question Mandatory : No Calculator : None Response Time : N.A Think Time : N.A Minimum Instruction Time : 0

Correct Marks : 5 Wrong Marks : 1

Question Key Details :

Key	Value
Comprehension	MCQ

Match List I with List II

LIST I		LIST II	
A.	Phenotype reflects the contribution of each allele	I.	Pleiotropy
B.	Multiple phenotypic expressions by a single gene	II.	Linkage
C.	Generation of non-parental gene combinations	III.	Polygenic inheritance
D.	Parental gene combinations higher than non-parental type in F_2 progeny	IV.	Recombination

Choose the correct answer from the options given below:

- 1. A-III, B-I, C-IV, D-II
- 2. A-I, B-IV, C-II, D-III
- 3. A-III, B-IV, C-I, D-II
- 4. A-I, B-III, C-II, D-IV

Options :

485584145581. 1
 485584145582. 2
 485584145583. 3
 485584145584. 4

Question Number : 11 Question Id : 48558436396 Question Type : MCQ Option Shuffling : No Is Question Mandatory : No Calculator : None Response Time : N.A Think Time : N.A Minimum Instruction Time : 0

Correct Marks : 5 Wrong Marks : 1

Question Key Details :

Key	Value
Comprehension	MCQ

ಪಟ್ಟಿ - I ಅನ್ನು ಪಟ್ಟಿ - IIರ ಜೊತೆ ಹೊಂದಿಸಿ.

ಪಟ್ಟಿ - I		ಪಟ್ಟಿ - II	
A.	ಫೆನೋಟಿಪ್ ಪ್ರತಿಯೊಂದು ಆಲೀಲ್‌ನ ಕೂಡುಗೆಯನ್ನು ಪ್ರತಿಫಲಿಸುತ್ತದೆ	I.	ಪ್ರಿಯೋಟ್ರಾಪಿ
B.	ಓಂದು ಜೀನ್‌ನಿಂದ ಹಲವು ಫೆನೋಟಿಪ್ ಮಾದರಿಯ ಅಭಿವ್ಯಕ್ತಿ	II.	ಪೊರಿಕೆ
C.	ವೋಷಕ ಜೀನ್ ಸಂಯೋಜನೆಯ ಉತ್ಪತ್ತಿ	III.	ಪಾಲಿಟೆನಿಕ್ ಅನುವಂಶೀಯತೆ
D.	F_2 ಸಂತತಿಯಲ್ಲಿ, ವೋಷಕ ಜೀನ್ ಸಂಯೋಜನೆಯು ಆವೋಷಕ ಜೀನ್ ವಿಧಕ್ಕಿಂತ ಹೆಚ್ಚಾಗಿರುವುದು	IV.	ಮರುಸಂಯೋಜನೆ

ಈ ಕೆಳಗಿನ ಆಯ್ಕೆಗಳಿಂದ ಸರಿಯಾದ ಉತ್ತರವನ್ನು ಆರಿಸಿ:

1. A-III, B-I, C-IV, D-II
2. A-I, B-IV, C-II, D-III
3. A-III, B-IV, C-I, D-II
4. A-I, B-III, C-II, D-IV

Options :

485584145581. 1
 485584145582. 2
 485584145583. 3
 485584145584. 4

Question Number : 12 Question Id : 48558436397 Question Type : MCQ Option Shuffling : No Is Question Mandatory : No Calculator : None Response Time : N.A Think Time : N.A Minimum Instruction Time : 0

Correct Marks : 5 Wrong Marks : 1

Question Key Details :

Key	Value
Comprehension	MCQ

Point mutations means:

1. Change in one base pair
2. Change in one allele
3. Change of base pair at a location without any significance
4. Addition or deletion of codons in multiple of three at a point

Options :

485584145585. 1
485584145586. 2
485584145587. 3
485584145588. 4

Question Number : 12 Question Id : 48558436397 Question Type : MCQ Option Shuffling : No Is Question Mandatory : No Calculator : None Response Time : N.A Think Time : N.A Minimum Instruction Time : 0

Correct Marks : 5 Wrong Marks : 1

Question Key Details :

Key	Value
Comprehension	MCQ

ಬಿಂದು ಉತ್ಪರಿವರ್ತನೆ ಎಂದರೆ:

1. ಒಂದು ಕ್ಷಾರ ಯುಗ್ಮದಲ್ಲಿ ಪರಿವರ್ತನೆ
2. ಒಂದು ಅಲೆಲ ಪರಿವರ್ತನೆ
3. ಯಾವುದೇ ಮಹತ್ವವಿಲ್ಲದೆ ಒಂದು ಸ್ಥಳದಲ್ಲಿ ಕ್ಷಾರ ಯುಗ್ಮದ ಪರಿವರ್ತನೆ
4. ಒಂದು ಬಿಂದುವಿನಲ್ಲಿ ಮೂರರ ಗುಣಕದಲ್ಲಿ ಕೋಡನ್‌ಗಳ ಸೇರ್ಪಡೆ ಅಥವಾ ಹಾನಿ

Options :

485584145585. 1
485584145586. 2
485584145587. 3
485584145588. 4

Question Number : 13 Question Id : 48558436398 Question Type : MCQ Option Shuffling : No Is Question Mandatory : No Calculator : None Response Time : N.A Think Time : N.A Minimum Instruction Time : 0

Correct Marks : 5 Wrong Marks : 1

Question Key Details :

Key	Value
Comprehension	MCQ

Which of the following is a stop codon?

1. UAC
2. UAG
3. UAU
4. AUG

Options :

485584145589. 1
485584145590. 2
485584145591. 3
485584145592. 4

Question Number : 13 Question Id : 48558436398 Question Type : MCQ Option Shuffling : No Is Question Mandatory : No Calculator : None Response Time : N.A Think Time : N.A Minimum Instruction Time : 0

Correct Marks : 5 Wrong Marks : 1

Question Key Details :

Key	Value
Comprehension	MCQ

ಈ ಕೆಳಗಿನವುಗಳಲ್ಲಿ ಯಾವುದು ಕೋಡನ್ ಅನ್ನು ನಿಲ್ಲಿಸುತ್ತದೆ?

1. UAC
2. UAG
3. UAU
4. AUG

Options :

485584145589. 1
485584145590. 2
485584145591. 3
485584145592. 4

Question Number : 14 Question Id : 48558436399 Question Type : MCQ Option Shuffling : No Is Question Mandatory : No Calculator : None Response Time : N.A Think Time : N.A Minimum Instruction Time : 0

Correct Marks : 5 Wrong Marks : 1

Question Key Details :

Key	Value
Comprehension	MCQ

Match List I with List II

LIST I (Codes)		LIST II (Codes for)	
A.	UUU	I.	Phenylalanine
B.	AUG	II.	Initiator codon
C.	UAA	III.	Terminator codon
D.	GUU	IV.	Valine

Choose the correct answer from the options given below:

1. A-I, B-II, C-III, D-IV
2. A-II, B-I, C-III, D-IV
3. A-I, B-II, C-IV, D-III
4. A-III, B-IV, C-I, D-II

Options :

485584145593. 1
485584145594. 2
485584145595. 3
485584145596. 4

Question Number : 14 Question Id : 48558436399 Question Type : MCQ Option Shuffling : No Is Question Mandatory : No Calculator : None Response Time : N.A Think Time : N.A Minimum Instruction Time : 0

Correct Marks : 5 Wrong Marks : 1

Question Key Details :

Key	Value
Comprehension	MCQ

ಪಟ್ಟಿ - I ಅನ್ನು ಪಟ್ಟಿ - IIರ ಜೊತೆ ಹೊಂದಿಸಿ.

ಪಟ್ಟಿ - I (ಸಂಕೇತಗಳು)	ಪಟ್ಟಿ - II (ಸಂಕೇತಗಳು ಪ್ರತಿನಿಧಿಸುವುದು)
A. UUU	I. ಫೆನಿಲಾಲನೈನ್
B. AUG	II. ಪ್ರಾರಂಭಿಕ ಕೋಡನ್
C. UAA	III. ಸಮಾಪಕ ಕೋಡನ್
D. GUU	IV. ವೆಲ್ಯಿನ್

ಈ ಕೆಳಗಿನ ಆಯ್ಕೆಗಳಿಂದ ಸರಿಯಾದ ಉತ್ತರವನ್ನು ಆರಿಸಿ:

1. A-I, B-II, C-III, D-IV
2. A-II, B-I, C-III, D-IV
3. A-I, B-II, C-IV, D-III
4. A-III, B-IV, C-I, D-II

Options :

485584145593. 1
485584145594. 2

485584145595. 3

485584145596. 4

Question Number : 15 Question Id : 48558436400 Question Type : MCQ Option Shuffling : No Is Question Mandatory : No Calculator : None Response Time : N.A Think Time : N.A Minimum Instruction Time : 0

Correct Marks : 5 Wrong Marks : 1

Question Key Details :

Key	Value
Comprehension	MCQ

Multiple additions of new genes or alleles to the new population and their loss from the old population of a particular place due to migration is known as:

1. Gene flow
2. Genetic drift
3. Mutation
4. Natural selection

Options :

485584145597. 1

485584145598. 2

485584145599. 3

485584145600. 4

Question Number : 15 Question Id : 48558436400 Question Type : MCQ Option Shuffling : No Is Question Mandatory : No Calculator : None Response Time : N.A Think Time : N.A Minimum Instruction Time : 0

Correct Marks : 5 Wrong Marks : 1

Question Key Details :

Key	Value
Comprehension	MCQ

ಒಂದು ನಿರ್ದಿಷ್ಟ ಸ್ಥಳದಲ್ಲಿ, ವಲಸೆಯ ಕಾರಣಕ್ಕಾಗಿ ಹಲವು ಹೊಸ ಜೀನುಗಳ ಅಥವಾ ಅಲೀಲೆಗಳ ಸೇರ್ಪಡೆ ಮತ್ತು ಹಳೆಯ ಜನಸಂಖ್ಯೆಯಿಂದ ಅವುಗಳು ನಶಿಸುವುದನ್ನು ಹೀಗೆನ್ನುವರು:

1. ಜೀನ್ ಹರಿವು
2. ಅನುವಂಶಿಕ ರವಾನೆ
3. ಉತ್ಪರಿವರ್ತನೆ
4. ನೈಸರ್ಗಿಕ ಆಯ್ಕೆ

Options :

485584145597. 1

485584145598. 2

485584145599. 3

485584145600. 4

Question Number : 16 Question Id : 48558436401 Question Type : MCQ Option Shuffling : No Is Question Mandatory : No Calculator : None Response Time : N.A Think Time : N.A Minimum Instruction Time : 0

Correct Marks : 5 Wrong Marks : 1

Question Key Details :

Key	Value
Comprehension	MCQ

Australian marsupials show the phenomena of:

1. Convergent evolution
2. Adaptive radiation
3. Isolation
4. Saltation

Options :

485584145601. 1
485584145602. 2
485584145603. 3
485584145604. 4

Question Number : 16 Question Id : 48558436401 Question Type : MCQ Option Shuffling : No Is Question Mandatory : No Calculator : None Response Time : N.A Think Time : N.A Minimum Instruction Time : 0

Correct Marks : 5 Wrong Marks : 1

Question Key Details :

Key	Value
Comprehension	MCQ

ಆಸ್ಟ್ರೇಲಿಯನ್ ಮಾರ್ಸುಪಿಯಲ್‌ಗಳು ಈ ವಿದ್ಯಮಾನವನ್ನು ತೋರಿಸುತ್ತದೆ:

1. ಒಮ್ಮುಖ ವಿಕಾಸ
2. ಅನುಕೂಲಕರ ವಿಕಿರಣ
3. ಪ್ರತ್ಯೇಕತೆ
4. ಸಾಲ್ಟೇಷನ್

Options :

485584145601. 1
485584145602. 2
485584145603. 3
485584145604. 4

Question Number : 17 Question Id : 48558436402 Question Type : MCQ Option Shuffling : No Is Question Mandatory : No Calculator : None Response Time : N.A Think Time : N.A Minimum Instruction Time : 0

Correct Marks : 5 Wrong Marks : 1

Question Key Details :

Key	Value
Comprehension	MCQ

Identify the examples of evolution caused due to anthropogenic actions:

- A. *Bacillus thuringiensis* and Lepidopterans
- B. Industrial melanism in moths
- C. Resistant microbes against antibiotics
- D. Pesticides and insects

Choose the correct answer from the options given below:

- 1. A, B and C only
- 2. A, B and D only
- 3. B, C and D only
- 4. A, C and D Only

Options :

- 485584145605. 1
- 485584145606. 2
- 485584145607. 3
- 485584145608. 4

Question Number : 17 Question Id : 48558436402 Question Type : MCQ Option Shuffling : No Is Question Mandatory : No Calculator : None Response Time : N.A Think Time : N.A Minimum Instruction Time : 0

Correct Marks : 5 Wrong Marks : 1

Question Key Details :

Key	Value
Comprehension	MCQ

ಮಾನವಜನ್ಯ ಕ್ರಿಯೆಗಳಿಂದ ಉಂಟಾಗಿರುವ ವಿಕಾಸದ ಉದಾಹರಣೆಗಳನ್ನು ಗುರುತಿಸಿ:

- A. ಬ್ಯಾಸಿಲಸ್ ತೂರಿಂಗ್‌ನಿಸ್ ಮತ್ತು ಲೆಪಿಡೋಪ್ಟೆರಾನ್ಸ್
- B. ಪತಂಗಗಳಲ್ಲಿ ಔದ್ಯೋಗಿಕ ಕೃಷ್ಣವರ್ಣ
- C. ಪ್ರತಿಜೀವಕಗಳ ವಿರುದ್ಧ ಪ್ರತಿಬಂಧಕ ಜೀವಾಣುಗಳು
- D. ಪೀಡನಾಶಕಗಳು ಮತ್ತು ಕೀಟಗಳು

ಈ ಕೆಳಗಿನ ಆಯ್ಕೆಗಳಿಂದ ಸರಿಯಾದ ಉತ್ತರವನ್ನು ಆರಿಸಿ:

- 1. A, B, C
- 2. A, B, D
- 3. B, C, D
- 4. A, C, D

Options :

- 485584145605. 1
- 485584145606. 2
- 485584145607. 3
- 485584145608. 4

Question Number : 18 Question Id : 48558436403 Question Type : MCQ Option Shuffling : No Is Question Mandatory : No Calculator : None Response Time : N.A Think Time : N.A Minimum Instruction Time : 0

Correct Marks : 5 Wrong Marks : 1

Question Key Details :

Key	Value
Comprehension	MCQ

The presence of which disease is confirmed by Widal Test?

1. Malaria
2. Pneumonia
3. Typhoid
4. AIDS

Options :

485584145609. 1
485584145610. 2
485584145611. 3
485584145612. 4

Question Number : 18 Question Id : 48558436403 Question Type : MCQ Option Shuffling : No Is Question Mandatory : No Calculator : None Response Time : N.A Think Time : N.A Minimum Instruction Time : 0

Correct Marks : 5 Wrong Marks : 1

Question Key Details :

Key	Value
Comprehension	MCQ

ವೈಡಾಲ್ ಪರೀಕ್ಷೆಯು ಯಾವ ಕಾಯಿಲೆ ಇರುವುದನ್ನು ದೃಢಪಡಿಸುತ್ತದೆ?

1. ಮಲೇರಿಯಾ
2. ನ್ಯೂಮೋನಿಯಾ
3. ಟೈಫಾಯಿಡ್
4. AIDS (ಐಡ್ಸ್)

Options :

485584145609. 1
485584145610. 2
485584145611. 3
485584145612. 4

Question Number : 19 Question Id : 48558436404 Question Type : MCQ Option Shuffling : No Is Question Mandatory : No Calculator : None Response Time : N.A Think Time : N.A Minimum Instruction Time : 0

Correct Marks : 5 Wrong Marks : 1

Question Key Details :

Key	Value
Comprehension	MCQ

Arrange the stages of HIV infection in humans sequentially.

- A. Introduction of viral DNA in the cell
- B. Production of multiple viruses
- C. Infection of human cell by virus
- D. Incorporation of viral DNA into host genome

Choose the correct answer from the options given below:

- 1. A, B, D, C
- 2. C, A, D, B
- 3. D, A, B, C
- 4. B, A, D, C

Options :

- 485584145613. 1
- 485584145614. 2
- 485584145615. 3
- 485584145616. 4

Question Number : 19 Question Id : 48558436404 Question Type : MCQ Option Shuffling : No Is Question Mandatory : No Calculator : None Response Time : N.A Think Time : N.A Minimum Instruction Time : 0

Correct Marks : 5 Wrong Marks : 1

Question Key Details :

Key	Value
Comprehension	MCQ

ಮನುಷ್ಯನಲ್ಲಿ HIV ಸೋಂಕಿನ ಹಂತಗಳನ್ನು ಕಾಲಾನುಕ್ರಮದಲ್ಲಿ ಜೋಡಿಸಿ.

- A. ಕೋಶದಲ್ಲಿ ವೈರಾಣು DNA ಯ ಪರಿಚಯ
- B. ಬಹು ವೈರಾಣುಗಳು ಉತ್ಪಾದನೆ
- C. ವೈರಸ್‌ನಿಂದ ಮನುಷ್ಯನ ಕೋಶದಲ್ಲಿ ಸೋಂಕು
- D. ಆತಿಥೇಯ ಜೆನೋಮ್‌ಗೆ ವೈರಾಣು DNA ಯ ಸಂಯೋಜನೆ

ಈ ಕೆಳಗಿನ ಆಯ್ಕೆಗಳಿಂದ ಸರಿಯಾದ ಉತ್ತರವನ್ನು ಆರಿಸಿ.

- 1. A, B, D, C
- 2. C, A, D, B
- 3. D, A, B, C
- 4. B, A, D, C

Options :

- 485584145613. 1
- 485584145614. 2
- 485584145615. 3
- 485584145616. 4

Question Number : 20 Question Id : 48558436405 Question Type : MCQ Option Shuffling : No Is Question Mandatory : No Calculator : None Response Time : N.A Think Time : N.A Minimum Instruction Time : 0

Correct Marks : 5 Wrong Marks : 1

Question Key Details :

Key	Value
Comprehension	MCQ

Match List I with List II

LIST I Causal organism		LIST II Disease	
A.	<i>Wuchereria bancrofti</i>	I.	Ringworm
B.	<i>Microsporium</i>	II.	Elephantiasis
C.	<i>Entamoeba histolytica</i>	III.	Malaria
D.	<i>Plasmodium vivax</i>	IV.	Amoebiasis

Choose the correct answer from the options given below:

1. A-II, B-I, C-IV, D-III
2. A-I, B-II, C-III, D-IV
3. A-IV, B-III, C-II, D-I
4. A-I, B-II, C-IV, D-III

Options :

- 485584145617. 1
- 485584145618. 2
- 485584145619. 3
- 485584145620. 4

Question Number : 20 Question Id : 48558436405 Question Type : MCQ Option Shuffling : No Is Question Mandatory : No Calculator : None Response Time : N.A Think Time : N.A Minimum Instruction Time : 0

Correct Marks : 5 Wrong Marks : 1

Question Key Details :

Key	Value
Comprehension	MCQ

ಪಟ್ಟಿ - I ಅನ್ನು ಪಟ್ಟಿ - IIರ ಜೊತೆ ಹೊಂದಿಸಿ.

ಪಟ್ಟಿ - I ಕಾರಣವಾಗುವ ಜೀವಾಣು	ಪಟ್ಟಿ - II ಕಾಯಿಲೆ
A. ಪ್ರಚರಣಿಯಾ ಬಸಿಕ್ಯಾಪ್ಪಿ	I. ರಿಂಗ್ ವರ್ಮ್
B. ಮ್ಯೂಕೋಸ್ಟ್ರೋಮ್	II. ಆನೆಕಾಲು
C. ಎಂಟೊಮೋಬಾ ಹಿಸ್ಟೋಲೈಟಿಕಾ	III. ಮಲೇರಿಯಾ
D. ಪ್ಲಾಸ್ಮೋಡಿಯನ್ ವಿವಾಕ್ಸ	IV. ಅಮೀಬಿಯಾಸಿಸ್

ಈ ಕೆಳಗಿನ ಆಯ್ಕೆಗಳಿಂದ ಸರಿಯಾದ ಉತ್ತರವನ್ನು ಆರಿಸಿ:

1. A-II, B-I, C-IV, D-III

2. A-I, B-II, C-III, D-IV

3. A-IV, B-III, C-II, D-I

4. A-I, B-II, C-IV, D-III

Options :

485584145617. 1

485584145618. 2

485584145619. 3

485584145620. 4

Question Number : 21 Question Id : 48558436406 Question Type : MCQ Option Shuffling : No Is Question Mandatory : No Calculator : None Response Time : N.A Think Time : N.A Minimum Instruction Time : 0

Correct Marks : 5 Wrong Marks : 1

Question Key Details :

Key	Value
Comprehension	MCQ

Homozygosity is achieved through :

1. Recombinant DNA technology

2. Vaccination

3. Inbreeding

4. Hybridoma technology

Options :

485584145621. 1

485584145622. 2

485584145623. 3

485584145624. 4

Question Number : 21 Question Id : 48558436406 Question Type : MCQ Option Shuffling : No Is Question Mandatory : No Calculator : None Response Time : N.A Think Time : N.A Minimum Instruction Time : 0

Correct Marks : 5 Wrong Marks : 1

Question Key Details :

Key	Value
-----	-------

ಹೋಮೋಜೈಗೋಸಿಟಿಯನ್ನು ಈ ಮೂಲಕ ಸಾಧಿಸಬಹುದು:

1. DNA ಮರುಸಂಯೋಜನೆ ತಂತ್ರಜ್ಞಾನ
2. ಲಸಿಕಾಕರಣ
3. ಅಂತಃಪ್ರಜನನ
4. ಹೈಬ್ರಿಡೋಮಾ ತಂತ್ರಜ್ಞಾನ

Options :

485584145621. 1
485584145622. 2
485584145623. 3
485584145624. 4

Question Number : 22 Question Id : 48558436407 Question Type : MCQ Option Shuffling : No Is Question Mandatory : No Calculator : None Response Time : N.A Think Time : N.A Minimum Instruction Time : 0

Correct Marks : 5 Wrong Marks : 1

Question Key Details :

Key	Value
Comprehension	MCQ

Arrange the steps involved in breeding a crop for a new genetic variety in sequence.

- A. Selection and testing of superior recombinants
- B. Evaluation and selection of parents
- C. Collection of variability
- D. Testing release and commercialisation of new cultivars
- E. Cross hybridisation among selected parents

Choose the correct answer from the options given below:

1. A → C → B → E → D
2. B → D → A → C → E
3. C → B → E → A → D
4. D → B → A → E → C

Options :

485584145625. 1
485584145626. 2
485584145627. 3
485584145628. 4

Question Number : 22 Question Id : 48558436407 Question Type : MCQ Option Shuffling : No Is Question Mandatory : No Calculator : None Response Time : N.A Think Time : N.A Minimum Instruction Time : 0

Correct Marks : 5 Wrong Marks : 1

Question Key Details :

Key	Value

ಒಂದು ಹೊಸ ತಳಿ ವಿಧಕ್ಕಾಗಿ ಒಂದು ಬೆಳೆಯನ್ನು ತಳಿ ಸಂವರ್ಧನೆ ಮಾಡುವಲ್ಲಿ ಒಳಗೊಳ್ಳುವ ಹಂತಗಳನ್ನು ಕ್ರಮವಾಗಿ ಜೋಡಿಸಿ.

- ಉತ್ತಮ ದರ್ಜೆಯ ಮರುಸಂಯೋಜಕಗಳ ಆಯ್ಕೆ ಮತ್ತು ಪರೀಕ್ಷೆ
- ಜನಕಗಳ ಮೌಲ್ಯಮಾಪನ ಮತ್ತು ಆಯ್ಕೆ
- ವ್ಯತ್ಯಯದ ಸಂಗ್ರಹ
- ಪ್ರಾಯೋಗಿಕ ಬಿಡುಗಡೆ ಮತ್ತು ಹೊಸ ತಳಿಗಳ ವಾಣಿಜ್ಯೀಕರಣ
- ಆಯ್ಕೆ ಜನಕಗಳ ನಡುವೆ ಸಂಕರಣ

ಈ ಕೆಳಗಿನ ಆಯ್ಕೆಗಳಿಂದ ಸರಿಯಾದ ಉತ್ತರವನ್ನು ಆರಿಸಿ:

- A → C → B → E → D
- B → D → A → C → E
- C → B → E → A → D
- D → B → A → E → C

Options :

485584145625. 1
485584145626. 2
485584145627. 3
485584145628. 4

Question Number : 23 Question Id : 48558436408 Question Type : MCQ Option Shuffling : No Is Question Mandatory : No Calculator : None Response Time : N.A Think Time : N.A Minimum Instruction Time : 0

Correct Marks : 5 Wrong Marks : 1

Question Key Details :

Key	Value
Comprehension	MCQ

Match List I with List II

LIST I		LIST II	
A.	<i>Apis indica</i>	I.	Dairying
B.	<i>Carla</i>	II.	Poultry
C.	Leghorn	III.	Fisheries
D.	Jersey	IV.	Bee-keeping

Choose the correct answer from the options given below:

- A-I, B-II, C-III, D-IV
- A-II, B-I, C-III, D-IV
- A-IV, B-III, C-II, D-I
- A-III, B-IV, C-I, D-II

Options :

485584145629. 1

485584145630. 2

485584145631. 3

485584145632. 4

Question Number : 23 Question Id : 48558436408 Question Type : MCQ Option Shuffling : No Is Question Mandatory : No Calculator : None Response Time : N.A Think Time : N.A Minimum Instruction Time : 0

Correct Marks : 5 Wrong Marks : 1

Question Key Details :

Key	Value
Comprehension	MCQ

ಪಟ್ಟಿ - I ಅನ್ನು ಪಟ್ಟಿ - IIರ ಜೊತೆ ಹೊಂದಿಸಿ.

ಪಟ್ಟಿ - I		ಪಟ್ಟಿ - II	
A.	ಅನಿನ್ ಇಂಡಿಕಾ	I.	ಹ್ಯಾನುಗಾರಿಕೆ
B.	ಕ್ಯಾಟಾಲ್	II.	ಕೋಳಿ ಸಾಕಾಣಿಕೆ
C.	ಲೆಫೋರ್ನಾ	III.	ಮೀನು ಸಾಕಾಣಿಕೆ
D.	ಜೆರ್ಸಿ	IV.	ಬೇನು ಸಾಕಾಣಿಕೆ

ಈ ಕೆಳಗಿನ ಆಯ್ಕೆಗಳಿಂದ ಸರಿಯಾದ ಉತ್ತರವನ್ನು ಆರಿಸಿ:

1. A-I, B-II, C-III, D-IV

2. A-II, B-I, C-III, D-IV

3. A-IV, B-III, C-II, D-I

4. A-III, B-IV, C-I, D-II

Options :

485584145629. 1

485584145630. 2

485584145631. 3

485584145632. 4

Question Number : 24 Question Id : 48558436409 Question Type : MCQ Option Shuffling : No Is Question Mandatory : No Calculator : None Response Time : N.A Think Time : N.A Minimum Instruction Time : 0

Correct Marks : 5 Wrong Marks : 1

Question Key Details :

Key	Value
Comprehension	MCQ

Which of the following microbe serves as an important biofertiliser in paddy field?

1. Cyanobacteria

2. Rhizobium

3. Myconhiza

4. Bacillus thuringiensis

Options :

485584145633. 1

485584145634. 2

485584145635. 3

485584145636. 4

Question Number : 24 Question Id : 48558436409 Question Type : MCQ Option Shuffling : No Is Question Mandatory : No Calculator : None Response Time : N.A Think Time : N.A Minimum Instruction Time : 0

Correct Marks : 5 Wrong Marks : 1

Question Key Details :

Key	Value
Comprehension	MCQ

ಭತ್ತದ ಗದ್ದೆಯಲ್ಲಿ ಪ್ರಮುಖ ಜೈವಿಕ ಗೊಬ್ಬರವಾಗಿ ಸೇವೆ ಮಾಡುವ ಸೂಕ್ಷ್ಮಜೀವಿ ಈ ಕೆಳಗಿನವುಗಳಲ್ಲಿ ಯಾವುದು?

1. ಕ್ಯಾನೋಬ್ಯಾಕ್ಟೀರಿಯಾ
2. ಲ್ಯಾಕ್ಟೋಬಿಯಮ್
3. ಮೈಕೋರಿಜಾ
4. ಬ್ಯಾಸಿಲಸ್ ಥೂರಿಂಗ್‌ನಿಸ್

Options :

485584145633. 1

485584145634. 2

485584145635. 3

485584145636. 4

Question Number : 25 Question Id : 48558436410 Question Type : MCQ Option Shuffling : No Is Question Mandatory : No Calculator : None Response Time : N.A Think Time : N.A Minimum Instruction Time : 0

Correct Marks : 5 Wrong Marks : 1

Question Key Details :

Key	Value
Comprehension	MCQ

Identify the correct statements with respect to microbes.

- A. "Toddy" the traditional drink obtained by fermenting sap of Palm tree.
- B. Swiss cheese's large holes are due to activity of *Saccharomyces cerevisiae*.
- C. "Penicillin" was discovered by Alexander Fleming.
- D. The Cyclosporin A, is produced by *Trichoderma polysporum*.

Choose the the correct answer from the options given below:

1. A, B and D only
2. A and B only
3. A, C, and D only
4. C and D only

Options :

485584145637. 1
485584145638. 2
485584145639. 3
485584145640. 4

Question Number : 25 Question Id : 48558436410 Question Type : MCQ Option Shuffling : No Is Question Mandatory : No Calculator : None Response Time : N.A Think Time : N.A Minimum Instruction Time : 0

Correct Marks : 5 Wrong Marks : 1

Question Key Details :

Key	Value
Comprehension	MCQ

ಸೂಕ್ಷ್ಮಾಣು ಜೀವಿಗಳಿಗೆ ಸಂಬಂಧಿಸಿದ ಸರಿಯಾದ ಹೇಳಿಕೆಗಳನ್ನು ಗುರುತಿಸಿ.

- A. ತಾಳೆ ಮರದ ರಸವನ್ನು ಹುದುಗಿಸಿ "ಕಳ್ಳು (ಸೇಂದಿ)" ಎಂಬ ಸಾಂಪ್ರದಾಯಿಕ ಪೇಯವನ್ನು ಪಡೆಯಲಾಗುತ್ತದೆ.
- B. ಸ್ಲಿಜ್ ಚೀಜ್‌ನಲ್ಲಿ ದೊಡ್ಡ ರಂಧ್ರಗಳು ಸಚ್ಚರೋಮೈಸಿಸ್ ಸೆರೆವಿಸೆ ಚಟುವಟಿಕೆಯಿಂದ ಉಂಟಾಗುತ್ತವೆ.
- C. ಅಲೆಕ್ಸಾಂಡರ್ ಫ್ಲೆಮಿಂಗ್ ಅವರು "ಪೆನಿಸಿಲಿನ್" ಅನ್ನು ಸಂಶೋಧಿಸಿದರು.
- D. ದಿ ಸ್ಯುಕ್ರೋಸ್ಪೋರಿನ್ ಎ ಯನ್ನು ಟ್ರೈಕೋಡರ್ಮಾ ಪ್ರೋಲಿಸ್ಪೋರಮ್‌ನಿಂದ ಉತ್ಪಾದಿಸಲಾಗುತ್ತದೆ.

ಈ ಕೆಳಗಿನ ಆಯ್ಕೆಗಳಿಂದ ಸರಿಯಾದ ಉತ್ತರವನ್ನು ಆರಿಸಿ:

- 1. A, B ಮತ್ತು D ಮಾತ್ರ
- 2. A ಮತ್ತು B ಮಾತ್ರ
- 3. A, C, ಮತ್ತು D ಮಾತ್ರ
- 4. C ಮತ್ತು D ಮಾತ್ರ

Options :

485584145637. 1
485584145638. 2
485584145639. 3
485584145640. 4

Question Number : 26 Question Id : 48558436411 Question Type : MCQ Option Shuffling : No Is Question Mandatory : No Calculator : None Response Time : N.A Think Time : N.A Minimum Instruction Time : 0

Correct Marks : 5 Wrong Marks : 1

Question Key Details :

Key	Value
Comprehension	MCQ

Match List I with List II

LIST I Organism		LIST II Product	
A.	<i>Streptococcus</i>	I.	Citric acid
B.	<i>Aspergillus niger</i>	II.	Streptokinase
C.	<i>Monascus purpureus</i>	III.	Ethanol
D.	<i>Saccharomyces cerevisiae</i>	IV.	Statin

Choose the correct answer from the options given below:

1. A-II, B-I, C-IV, D-III
2. A-I, B-II, C-III, D-IV
3. A-II, B-I, C-III, D-IV
4. A-III, B-IV, C-I, D-II

Options :

485584145641. 1
485584145642. 2
485584145643. 3
485584145644. 4

Question Number : 26 Question Id : 48558436411 Question Type : MCQ Option Shuffling : No Is Question Mandatory : No Calculator : None Response Time : N.A Think Time : N.A Minimum Instruction Time : 0

Correct Marks : 5 Wrong Marks : 1

Question Key Details :

Key	Value
Comprehension	MCQ

ಪಟ್ಟಿ - I ಅನ್ನು ಪಟ್ಟಿ - IIರ ಜೊತೆ ಹೊಂದಿಸಿ.

ಪಟ್ಟಿ - I ಜೀವ		ಪಟ್ಟಿ - II ಉತ್ಪನ್ನ	
A.	ಸ್ಟ್ರೆಪ್ಟೋಕಾಕಸ್	I.	ಸಿಟ್ರಿಕ್ ಆಮ್ಲ
B.	ಆಸ್ಪೆರ್ಜಿಲ್ಲಸ್ ನೈಗರ್	II.	ಸ್ಟ್ರೆಪ್ಟೋಕೈನೇಸ್
C.	ಮೊನಾಕಸ್ ಪುರ್ಪುರಿಯಸ್	III.	ಎಥನಾಲ್
D.	ಸ್ಯಾಕರೋಮೈಸಿಸ್ ಸೆರೆವಿಸೀ	IV.	ಸ್ಟಾಟಿನ್

ಈ ಕೆಳಗಿನ ಆಯ್ಕೆಗಳಿಂದ ಸರಿಯಾದ ಉತ್ತರವನ್ನು ಆರಿಸಿ:

1. A-II, B-I, C-IV, D-III
2. A-I, B-II, C-III, D-IV
3. A-II, B-I, C-III, D-IV
4. A-III, B-IV, C-I, D-II

Options :

485584145641. 1
485584145642. 2

485584145643. 3

485584145644. 4

Question Number : 27 Question Id : 48558436412 Question Type : MCQ Option Shuffling : No Is Question Mandatory : No Calculator : None Response Time : N.A Think Time : N.A Minimum Instruction Time : 0

Correct Marks : 5 Wrong Marks : 1

Question Key Details :

Key	Value
Comprehension	MCQ

Which of the following is not a part of downstream processing?

1. Separation
2. Purification
3. Quality control
4. Biosynthesis

Options :

485584145645. 1

485584145646. 2

485584145647. 3

485584145648. 4

Question Number : 27 Question Id : 48558436412 Question Type : MCQ Option Shuffling : No Is Question Mandatory : No Calculator : None Response Time : N.A Think Time : N.A Minimum Instruction Time : 0

Correct Marks : 5 Wrong Marks : 1

Question Key Details :

Key	Value
Comprehension	MCQ

ಈ ಕೆಳಗಿನವುಗಳಲ್ಲಿ ಯಾವುದು ಅನುಪ್ರವಾಹ ಪ್ರಕ್ರಿಯೆಯ ಭಾಗವಲ್ಲ?

1. ಬೇರ್ಪಡೆ
2. ಶೋಧನ (ಶುದ್ಧೀಕರಣ)
3. ಗುಣಮಟ್ಟ ನಿಯಂತ್ರಣ
4. ಜೈವಿಕ ಸಂಶ್ಲೇಷಣೆ

Options :

485584145645. 1

485584145646. 2

485584145647. 3

485584145648. 4

Question Number : 28 Question Id : 48558436413 Question Type : MCQ Option Shuffling : No Is Question Mandatory : No Calculator : None Response Time : N.A Think Time : N.A Minimum Instruction Time : 0

Correct Marks : 5 Wrong Marks : 1

Question Key Details :

Key	Value
Comprehension	MCQ

Which was the first restriction endonuclease discovered?

1. *EcoRI*
2. *BamHI*
3. *Hind II*
4. *Pst I*

Options :

485584145649. 1
485584145650. 2
485584145651. 3
485584145652. 4

Question Number : 28 Question Id : 48558436413 Question Type : MCQ Option Shuffling : No Is Question Mandatory : No Calculator : None Response Time : N.A Think Time : N.A Minimum Instruction Time : 0

Correct Marks : 5 Wrong Marks : 1

Question Key Details :

Key	Value
Comprehension	MCQ

ಎಲ್ಲಕ್ಕಿಂತ ಮೊದಲು ಸಂಶೋಧಿಸಲಾದ ನಿಬಂಧ ಎಂಡೋನ್ಯೂಕ್ಲೀಸ್ ಯಾವುದು?

1. *EcoRI*
2. *BamHI*
3. *Hind II*
4. *Pst I*

Options :

485584145649. 1
485584145650. 2
485584145651. 3
485584145652. 4

Question Number : 29 Question Id : 48558436414 Question Type : MCQ Option Shuffling : No Is Question Mandatory : No Calculator : None Response Time : N.A Think Time : N.A Minimum Instruction Time : 0

Correct Marks : 5 Wrong Marks : 1

Question Key Details :

Key	Value
Comprehension	MCQ

The correct sequence of steps to obtain gene of interest from pool of DNA is:

- A. Cutting of DNA using restriction endonuclease.
- B. Viewing the ethidium bromide stained gel under UV light.
- C. Loading of DNA in wells.
- D. Cutting and extraction of DNA piece from gel.
- E. Separation of DNA fragments according to their molecular size.

Choose the correct answer from the options given below:

- 1. A, C, E, B, D
- 2. A, D, C, B, E
- 3. E, D, B, C, A
- 4. D, E, C, A, B

Options :

- 485584145653. 1
- 485584145654. 2
- 485584145655. 3
- 485584145656. 4

Question Number : 29 Question Id : 48558436414 Question Type : MCQ Option Shuffling : No Is Question Mandatory : No Calculator : None Response Time : N.A Think Time : N.A Minimum Instruction Time : 0

Correct Marks : 5 Wrong Marks : 1

Question Key Details :

Key	Value
Comprehension	MCQ

DNA ಯ ಸಮೂಹದಿಂದ ಅಪೇಕ್ಷಿತ ಜೀನ್ ಅನ್ನು ಪಡೆಯುವ ಹಂತಗಳು ಕಾಲಾನುಕ್ರಮದಲ್ಲಿ ಇಂತಿವೆ:

- A. ನಿರ್ಬಂಧ ಎಂಡೋನ್ಯೂಕ್ಲಿಸ್ ಬಳಸಿಕೊಂಡು DNA ಯನ್ನು ಕತ್ತರಿಸುವುದು.
- B. ಎಥಿಡಿಯಂ ಬ್ರೋಮೈಡ್ ಕಲೆಯುಳ್ಳ ಜೆಲ್ ಅನ್ನು UV ಬೆಳಕಿನ ಅಡಿಯಲ್ಲಿ ವೀಕ್ಷಿಸುವುದು.
- C. ಕೋಶಿಕೆಗಳಲ್ಲಿ DNA ಯನ್ನು ಪೇರಿಸುವುದು.
- D. ಜೆಲ್‌ನಿಂದ DNA ತುಣುಕನ್ನು ಕತ್ತರಿಸುವುದು ಮತ್ತು ಹೊರತೆಗೆಯುವಿಕೆ.
- E. ಅಣುಗಳ ಗಾತ್ರಕ್ಕೆ ಅನುಗುಣವಾಗಿ DNA ಆಂಶಗಳನ್ನು ಪ್ರತ್ಯೇಕಿಸುವುದು.

ಈ ಕೆಳಗಿನ ಆಯ್ಕೆಗಳಿಂದ ಸರಿಯಾದ ಉತ್ತರವನ್ನು ಆರಿಸಿ:

- 1. A, C, E, B, D
- 2. A, D, C, B, E
- 3. E, D, B, C, A
- 4. D, E, C, A, B

Options :

- 485584145653. 1
- 485584145654. 2
- 485584145655. 3

485584145656. 4

Question Number : 30 Question Id : 48558436415 Question Type : MCQ Option Shuffling : No Is Question Mandatory : No Calculator : None Response Time : N.A Think Time : N.A Minimum Instruction Time : 0

Correct Marks : 5 Wrong Marks : 1

Question Key Details :

Key	Value
Comprehension	MCQ

Over 95% of all existing transgenic animals are:

1. Mice
2. Goat
3. Rabbit
4. Pig

Options :

485584145657. 1
485584145658. 2
485584145659. 3
485584145660. 4

Question Number : 30 Question Id : 48558436415 Question Type : MCQ Option Shuffling : No Is Question Mandatory : No Calculator : None Response Time : N.A Think Time : N.A Minimum Instruction Time : 0

Correct Marks : 5 Wrong Marks : 1

Question Key Details :

Key	Value
Comprehension	MCQ

ಅಸ್ತಿತ್ವದಲ್ಲಿರುವ 95% ಕ್ಕಿಂತ ಹೆಚ್ಚು ಜೀವಾಂತರ ಪ್ರಾಣಿಗಳು ಇವು:

1. ಇಲಿ
2. ಆಡು
3. ಮೊಲ
4. ಹಂದಿ

Options :

485584145657. 1
485584145658. 2
485584145659. 3
485584145660. 4

Question Number : 31 Question Id : 48558436416 Question Type : MCQ Option Shuffling : No Is Question Mandatory : No Calculator : None Response Time : N.A Think Time : N.A Minimum Instruction Time : 0

Correct Marks : 5 Wrong Marks : 1

Question Key Details :

Key	Value
-----	-------

A novel strategy to prevent infestation of roots of tobacco plant with the nematode *Meloidogyne incognita* is :

1. DNA interference
2. DNA-RNA interference
3. RNA interference
4. RNA-Protein interference

Options :

485584145661. 1
485584145662. 2
485584145663. 3
485584145664. 4

Question Number : 31 Question Id : 48558436416 Question Type : MCQ Option Shuffling : No Is Question Mandatory : No Calculator : None Response Time : N.A Think Time : N.A Minimum Instruction Time : 0

Correct Marks : 5 Wrong Marks : 1

Question Key Details :

Key	Value
Comprehension	MCQ

ತಂಬಾಕು ಸಸ್ಯದ ಬೇರುಗಳಲ್ಲಿ ನೆಮಾಟೋಡ್ ಮೆಲೋಯ್ಡೈಜಿನ್ ಇನ್‌ಕ್ಯಾಕ್ಟಿವೇಷನ್ ಹಾವಳಿಯನ್ನು ತಡೆಗಟ್ಟುವ ನವೀನ ತಂತ್ರ ಇದಾಗಿದೆ:

1. DNA ಹಸ್ತಕ್ಷೇಪ
2. DNA-RNA ಹಸ್ತಕ್ಷೇಪ
3. RNA ಹಸ್ತಕ್ಷೇಪ
4. RNA-ಪ್ರೋಟೀನ್ ಹಸ್ತಕ್ಷೇಪ

Options :

485584145661. 1
485584145662. 2
485584145663. 3
485584145664. 4

Question Number : 32 Question Id : 48558436417 Question Type : MCQ Option Shuffling : No Is Question Mandatory : No Calculator : None Response Time : N.A Think Time : N.A Minimum Instruction Time : 0

Correct Marks : 5 Wrong Marks : 1

Question Key Details :

Key	Value
Comprehension	MCQ

Match List I with List II

LIST I		LIST II	
A.	<i>Bacillus thuringiensis</i>	I.	Synthetic Human Insulin
B.	<i>Agrobacterium</i>	II.	ADA gene therapy
C.	<i>E. Coli</i>	III.	Cry gene
D.	Retroviral Vector	IV.	Vector carrying nematode-specific genes

Choose the correct answer from the options given below:

1. A-III, B-IV, C-I, D-II
2. A-II, B-I, C-III, D-IV
3. A-I, B-III, C-IV, D-II
4. A-IV, B-II, C-I, D-III

Options :

485584145665. 1
485584145666. 2
485584145667. 3
485584145668. 4

Question Number : 32 Question Id : 48558436417 Question Type : MCQ Option Shuffling : No Is Question Mandatory : No Calculator : None Response Time : N.A Think Time : N.A Minimum Instruction Time : 0

Correct Marks : 5 Wrong Marks : 1

Question Key Details :

Key	Value
Comprehension	MCQ

ಪಟ್ಟಿ - I ಅನ್ನು ಪಟ್ಟಿ - IIರ ಜೊತೆ ಹೊಂದಿಸಿ.

ಪಟ್ಟಿ - I		ಪಟ್ಟಿ - II	
A.	ಬ್ಯಾಸಿಲ್ಲಸ್ ಥುರಿಂಗೇನ್ಸಿಸ್	I.	ಸಂಶ್ಲೇಷಿತ ಮಾನವ ಇನ್ಸುಲಿನ್
B.	ಆಗ್ರೋಬ್ಯಾಕ್ಟೀರಿಯಂ	II.	ADA ಜೀನ್ ಚಿಕಿತ್ಸೆ
C.	ಇ.ಕೊಲಿ	III.	ಕ್ರೈ ಜೀನ್
D.	ರಿಟ್ರೋವೈರಲ್ ವಾಹಕ	IV.	ನೆಮಟೋಡ್-ನಿರ್ದಿಷ್ಟ ಜೀನ್‌ಗಳ ವಾಹಕ

ಈ ಕೆಳಗಿನ ಆಯ್ಕೆಗಳಿಂದ ಸರಿಯಾದ ಉತ್ತರವನ್ನು ಆರಿಸಿ:

1. A-III, B-IV, C-I, D-II
2. A-II, B-I, C-III, D-IV
3. A-I, B-III, C-IV, D-II
4. A-IV, B-II, C-I, D-III

Options :

485584145665. 1
485584145666. 2
485584145667. 3
485584145668. 4

Question Number : 33 Question Id : 48558436418 Question Type : MCQ Option Shuffling : No Is Question Mandatory : No Calculator : None Response Time : N.A Think Time : N.A Minimum Instruction Time : 0

Correct Marks : 5 Wrong Marks : 1

Question Key Details :

Key	Value
Comprehension	MCQ

Identify the commensalism from the following associations:

1. Fungi and roots of higher plants.
2. Cuckoo and crow during breeding season
3. Fig species and wasp
4. Sea anemone and clown fish

Options :

485584145669. 1
485584145670. 2
485584145671. 3
485584145672. 4

Question Number : 33 Question Id : 48558436418 Question Type : MCQ Option Shuffling : No Is Question Mandatory : No Calculator : None Response Time : N.A Think Time : N.A Minimum Instruction Time : 0

Correct Marks : 5 Wrong Marks : 1

Question Key Details :

Key	Value
Comprehension	MCQ

ಈ ಕೆಳಗಿನ ಸಹಯೋಗಗಳಲ್ಲಿ ಇರುವ ಸಹಜೀವನವನ್ನು ಗುರುತಿಸಿ:

1. ಉನ್ನತ ಸಸ್ಯಗಳಲ್ಲಿ ಶಿಲೀಂಧ್ರ ಮತ್ತು ಬೇರುಗಳು
2. ತಳಿ ಸಂವರ್ಧನೆ ಋತುವಿನಲ್ಲಿ ಕೋಗಿಲೆ ಮತ್ತು ಕಾಗೆ
3. ಅಂಜೂರದ ಜಾತಿಗಳು ಮತ್ತು ಕಣಜದ ಹುಳು
4. ಸಮುದ್ರ ಅಮೆ ಮತ್ತು ಕ್ಲೋನ್ ಮೀನು

Options :

485584145669. 1
485584145670. 2
485584145671. 3
485584145672. 4

Question Number : 34 Question Id : 48558436419 Question Type : MCQ Option Shuffling : No Is Question Mandatory : No Calculator : None Response Time : N.A Think Time : N.A Minimum Instruction Time : 0

Correct Marks : 5 Wrong Marks : 1

Question Key Details :

Key	Value
Comprehension	MCQ

Select the organisms that can tolerate wide range of temperatures:

1. Eurythermals
2. Stenothermals
3. Conformers
4. Osmoregulators

Options :

485584145673. 1
485584145674. 2
485584145675. 3
485584145676. 4

Question Number : 34 Question Id : 48558436419 Question Type : MCQ Option Shuffling : No Is Question Mandatory : No Calculator : None Response Time : N.A Think Time : N.A Minimum Instruction Time : 0

Correct Marks : 5 Wrong Marks : 1

Question Key Details :

Key	Value
Comprehension	MCQ

ವೈವಿಧ್ಯಮಯ ಶ್ರೇಣಿಯ ತಾಪಮಾನಗಳನ್ನು ತಾಳಿಕೊಳ್ಳಬಲ್ಲ ಜೀವಿಗಳನ್ನು ಆಯ್ಕೆ ಮಾಡಿ?

1. ಯೂರಿಥರ್ಮಲ್‌ಗಳು
2. ಸ್ಟೆನೋಥರ್ಮಲ್‌ಗಳು
3. ಅನುವರ್ತಕಗಳು
4. ಓಸ್ಮೋ ನಿಯಂತ್ರಕಗಳು

Options :

485584145673. 1
485584145674. 2
485584145675. 3
485584145676. 4

Question Number : 35 Question Id : 48558436420 Question Type : MCQ Option Shuffling : No Is Question Mandatory : No Calculator : None Response Time : N.A Think Time : N.A Minimum Instruction Time : 0

Correct Marks : 5 Wrong Marks : 1

Question Key Details :

Key	Value
Comprehension	MCQ

The rate of decomposition is controlled by:

1. Chemical composition of detritus only
2. Climatic factors only
3. Both chemical composition of detritus and climatic factors
4. Atmospheric pressure

Options :

485584145677. 1
485584145678. 2
485584145679. 3
485584145680. 4

Question Number : 35 Question Id : 48558436420 Question Type : MCQ Option Shuffling : No Is Question Mandatory : No Calculator : None Response Time : N.A Think Time : N.A Minimum Instruction Time : 0

Correct Marks : 5 Wrong Marks : 1

Question Key Details :

Key	Value
Comprehension	MCQ

ವಿಘಟನೆಯ ದರವನ್ನು ಇವುಗಳಿಂದ ನಿಯಂತ್ರಿಸಬಹುದು:

1. ವಿಶೀರ್ಷ್ಯಾ ವಸ್ತುವಿನ ರಾಸಾಯನಿಕ ಸಂಯೋಜನೆಯಿಂದ ಮಾತ್ರ
2. ಹವಾಮಾನದ ಅಂಶಗಳಿಂದ ಮಾತ್ರ
3. ವಿಶೀರ್ಷ್ಯಾ ವಸ್ತುವಿನ ರಾಸಾಯನಿಕ ಸಂಯೋಜನೆ ಮತ್ತು ಹವಾಮಾನ ಅಂಶಗಳು ಇವೆರಡರಿಂದಲೂ
4. ವಾತಾವರಣದ ಒತ್ತಡ

Options :

485584145677. 1
485584145678. 2
485584145679. 3
485584145680. 4

Question Number : 36 Question Id : 48558436421 Question Type : MCQ Option Shuffling : No Is Question Mandatory : No Calculator : None Response Time : N.A Think Time : N.A Minimum Instruction Time : 0

Correct Marks : 5 Wrong Marks : 1

Question Key Details :

Key	Value
Comprehension	MCQ

The Net Primary Productivity (NPP) is :

1. Gross Primary Productivity – Respiration losses
2. Gross Primary Productivity + Respiration losses
3. Gross Primary Productivity × Respiration losses
4. Respiration losses – Gross Primary Productivity

Options :

485584145681. 1
485584145682. 2
485584145683. 3
485584145684. 4

Question Number : 36 Question Id : 48558436421 Question Type : MCQ Option Shuffling : No Is Question Mandatory : No Calculator : None Response Time : N.A Think Time : N.A Minimum Instruction Time : 0

Correct Marks : 5 Wrong Marks : 1

Question Key Details :

Key	Value
Comprehension	MCQ

ನಿವ್ವಳ ಪ್ರಾಥಮಿಕ ಉತ್ಪಾದಕತೆ (NPP) ಎಂದರೆ:

1. ಒಟ್ಟು ಪ್ರಾಥಮಿಕ ಉತ್ಪಾದಕತೆ – ಉಸಿರಾಟ
2. ಒಟ್ಟು ಪ್ರಾಥಮಿಕ ಉತ್ಪಾದಕತೆ + ಉಸಿರಾಟ
3. ಒಟ್ಟು ಪ್ರಾಥಮಿಕ ಉತ್ಪಾದಕತೆ × ಉಸಿರಾಟ
4. ಉಸಿರಾಟ – ಒಟ್ಟು ಪ್ರಾಥಮಿಕ ಉತ್ಪಾದಕತೆ

Options :

485584145681. 1
485584145682. 2
485584145683. 3
485584145684. 4

Question Number : 37 Question Id : 48558436422 Question Type : MCQ Option Shuffling : No Is Question Mandatory : No Calculator : None Response Time : N.A Think Time : N.A Minimum Instruction Time : 0

Correct Marks : 5 Wrong Marks : 1

Question Key Details :

Key	Value
Comprehension	MCQ

Which of the following country has the highest biodiversity?

1. Brazil
2. Zimbabwe
3. Russia
4. India

Options :

485584145685. 1
485584145686. 2
485584145687. 3
485584145688. 4

Question Number : 37 Question Id : 48558436422 Question Type : MCQ Option Shuffling : No Is Question Mandatory : No Calculator : None Response Time : N.A Think Time : N.A Minimum Instruction Time : 0

Correct Marks : 5 Wrong Marks : 1

Question Key Details :

Key	Value
Comprehension	MCQ

ಈ ಕೆಳಗಿನ ಯಾವ ದೇಶದಲ್ಲಿ ಗರಿಷ್ಠ ಪ್ರಮಾಣದ ಜೀವ ವೈವಿಧ್ಯವಿದೆ?

1. ಬ್ರೆಜಿಲ್
2. ಜಿಂಬಾಬ್ವೆ
3. ರಷ್ಯಾ
4. ಭಾರತ

Options :

485584145685. 1
485584145686. 2
485584145687. 3
485584145688. 4

Question Number : 38 Question Id : 48558436423 Question Type : MCQ Option Shuffling : No Is Question Mandatory : No Calculator : None Response Time : N.A Think Time : N.A Minimum Instruction Time : 0

Correct Marks : 5 Wrong Marks : 1

Question Key Details :

Key	Value
Comprehension	MCQ

Which of the following species has become extinct due to over exploitation by humans?

1. *Clarias gariepinus*
2. Stellers's sea cow
3. *Lantana*
4. *Parthenium*

Options :

485584145689. 1
485584145690. 2
485584145691. 3
485584145692. 4

Question Number : 38 Question Id : 48558436423 Question Type : MCQ Option Shuffling : No Is Question Mandatory : No Calculator : None Response Time : N.A Think Time : N.A Minimum Instruction Time : 0

Correct Marks : 5 Wrong Marks : 1

Question Key Details :

Key	Value
Comprehension	MCQ

ಮಾನವನ ಅತಿಯಾದ ಬಳಕೆಯಿಂದ ಈ ಕೆಳಗಿನ ಯಾವುದು ನಶಿಸಿ ಹೋಯಿತು?

1. ಕ್ಲೇರಿಯಸ್ ಗಾರೆಯಿಪಿನಸ್
2. ಸ್ಟೆಲ್ಲರ್ಸ್ ಸಮುದ್ರ ಹಸು
3. ಲಂಟಾನಾ
4. ಪಾರ್ಥೆನಿಯಂ

Options :

485584145689. 1
485584145690. 2
485584145691. 3
485584145692. 4

Question Number : 39 Question Id : 48558436424 Question Type : MCQ Option Shuffling : No Is Question Mandatory : No Calculator : None Response Time : N.A Think Time : N.A Minimum Instruction Time : 0

Correct Marks : 5 Wrong Marks : 1

Question Key Details :

Key	Value
Comprehension	MCQ

Salts are drawn to the surface of the soil by:

1. Over cultivation
2. Deforestation
3. Water logging
4. Unrestricted grazing

Options :

485584145693. 1
485584145694. 2
485584145695. 3
485584145696. 4

Question Number : 39 Question Id : 48558436424 Question Type : MCQ Option Shuffling : No Is Question Mandatory : No Calculator : None Response Time : N.A Think Time : N.A Minimum Instruction Time : 0

Correct Marks : 5 Wrong Marks : 1

Question Key Details :

Key	Value
Comprehension	MCQ

ಲವಣಗಳು ಮಣ್ಣಿನಲ್ಲಿ ಮುಳುಗಿ ಹೋಗುವುದು ಇದರಿಂದ:

1. ಅತಿಯಾದ ಕೃಷಿ
2. ಅರಣ್ಯನಾಶ
3. ನೀರು ನಿಲ್ಲುವುದು
4. ಅನಿಯಂತ್ರಿತ ಮೇಯಿಸುವಿಕೆ

Options :

485584145693. 1
485584145694. 2
485584145695. 3
485584145696. 4

Question Number : 40 Question Id : 48558436425 Question Type : MCQ Option Shuffling : No Is Question Mandatory : No Calculator : None Response Time : N.A Think Time : N.A Minimum Instruction Time : 0

Correct Marks : 5 Wrong Marks : 1

Question Key Details :

Key	Value
Comprehension	MCQ

World's most problematic aquatic weed is:

1. Free floating algae
2. *Vallisneria*
3. *Eichhornia crassipes*
4. *Chara*

Options :

485584145697. 1
485584145698. 2
485584145699. 3
485584145700. 4

Question Number : 40 Question Id : 48558436425 Question Type : MCQ Option Shuffling : No Is Question Mandatory : No Calculator : None Response Time : N.A Think Time : N.A Minimum Instruction Time : 0

Correct Marks : 5 Wrong Marks : 1

Question Key Details :

Key	Value
Comprehension	MCQ

ಜಗತ್ತಿನ ಅತ್ಯಂತ ಸಮಸ್ಯಾತ್ಮಕ ಜಲ ಕಳೆ ಇದು:

1. ನೀರಿನ ಮೇಲೆ ತೇಲುವ ಪಾಚಿ
2. ವಾಲಿಸ್ನೇರಿಯಾ
3. ಈಕೋನಿಫಿಯಾ ಕ್ರಾಸಿಪಿಸ್
4. ಚಾರಾ

Options :

485584145697. 1
485584145698. 2
485584145699. 3
485584145700. 4

Sub-Section Number :

2

Sub-Section Id :

4855842691

Question Shuffling Allowed :

No

Is Section Default? :

null

Question Number : 41 Question Id : 48558436426 Question Type : MCQ Option Shuffling : No Is Question Mandatory : No Calculator : None Response Time : N.A Think Time : N.A Minimum Instruction Time : 0

Correct Marks : 5 Wrong Marks : 1

Question Key Details :

Key	Value
Comprehension	Comp1

Read the given paragraph and answer the question:

Humans have 23 pairs of chromosomes. 22 pairs are exactly same in both males and females; these are the autosomes. A pair of X-chromosome are present in the female, whereas the presence of an X and Y chromosome are determinant of the male characteristic.

A number of disorders in human beings have been found to be associated with the inheritance of changed or altered genes or chromosomes. Broadly, genetic disorder may be grouped into two categories-Mendelian disorders and Chromosomal disorders.

What is the probability of having a daughter to a couple expecting their first child?

1. Nil
2. 25%
3. 50%
4. 100%

Options :

485584145701. 1
485584145702. 2
485584145703. 3
485584145704. 4

Question Number : 41 Question Id : 48558436426 Question Type : MCQ Option Shuffling : No Is Question Mandatory : No Calculator : None Response Time : N.A Think Time : N.A Minimum Instruction Time : 0

Correct Marks : 5 Wrong Marks : 1

Question Key Details :

Key	Value
Comprehension	Comp1

ಈ ಗದ್ಯಭಾಗವನ್ನು ಓದಿ, ಮುಂದಿನ ಪ್ರಶ್ನೆಗಳಿಗೆ (ಪ್ರ. 41-45) ಉತ್ತರಿಸಿ.

ಮಾನವರು 23 ಜೋಡಿ ವರ್ಣತಂತುಗಳನ್ನು ಹೊಂದಿರುತ್ತಾರೆ. ಈ ಪೈಕಿ 22 ಜೋಡಿಗಳು ಪುರುಷರು ಮತ್ತು ಮಹಿಳೆಯರು ಇಬ್ಬರಲ್ಲೂ ಸಮನಾಗಿರುತ್ತವೆ. ಇವುಗಳನ್ನು ಅಲಿಂಗ ವರ್ಣತಂತುಗಳು ಎಂದು ಕರೆಯುತ್ತಾರೆ. ಮಹಿಳೆಯಲ್ಲಿ ಒಂದು ಜೋಡಿ X-ವರ್ಣತಂತು ಇರುತ್ತವೆ. ಆದರೆ ಪುರುಷರಲ್ಲಿ ಒಂದು X ಮತ್ತು ಒಂದು Y ವರ್ಣತಂತುಗಳಿದ್ದು, ಅವು ಪುರುಷರ ಗುಣಲಕ್ಷಣಗಳನ್ನು ನಿರ್ಧರಿಸುತ್ತವೆ.

ಮಾನವರಲ್ಲಿ ಪತ್ತೆ ಮಾಡಲಾದ ಹಲವಾರು ಅಸ್ವಸ್ಥತೆಗಳು ಬದಲಾದ ಅಥವಾ ಮಾರ್ಪಡಿತ ಜೀನ್ ಅಥವಾ ವರ್ಣತಂತುವನ್ನು ಅನುವಂಶಿಕವಾಗಿ ಪಡೆಯುವುದರೊಂದಿಗೆ ಸಂಬಂಧ ಹೊಂದಿವೆ. ಸ್ಥೂಲವಾಗಿ ಹೇಳುವುದಾದರೆ, ಅನುವಂಶಿಕ ಅಸ್ವಸ್ಥತೆಗಳನ್ನು ಎರಡು ವರ್ಗಗಳಾಗಿ ವಿಂಗಡಿಸಬಹುದು - ಮೆಂಡೆಲಿಯನ್ ಅಸ್ವಸ್ಥತೆಗಳು ಮತ್ತು ಕ್ರೋಮೋಸೋಮಲ್ ಅಸ್ವಸ್ಥತೆಗಳು.

ಮೊದಲ ಮಗುವಿನ ನಿರೀಕ್ಷೆಯಲ್ಲಿರುವ ದಂಪತಿಗೆ ಹೆಣ್ಣು ಮಗು ಜನಿಸುವ ಸಂಭವನೀಯತೆ ಎಷ್ಟು?

1. ಶೂನ್ಯ
2. 25%
3. 50%
4. 100%

Options :

485584145701. 1
485584145702. 2
485584145703. 3
485584145704. 4

Question Number : 42 Question Id : 48558436427 Question Type : MCQ Option Shuffling : No Is Question Mandatory : No Calculator : None Response Time : N.A Think Time : N.A Minimum Instruction Time : 0

Correct Marks : 5 Wrong Marks : 1

Question Key Details :

Key	Value
Comprehension	Comp1

Read the given paragraph and answer the question:

Humans have 23 pairs of chromosomes. 22 pairs are exactly same in both males and females; these are the autosomes. A pair of X-chromosome are present in the female, whereas the presence of an X and Y chromosome are determinant of the male characteristic.

A number of disorders in human beings have been found to be associated with the inheritance of changed or altered genes or chromosomes. Broadly, genetic disorder may be grouped into two categories-Mendelian disorders and Chromosomal disorders.

A disorder caused due to absence of one of the 'X' chromosome is -

1. Turner's Syndrome
2. Down's Syndrome
3. Klinefelter's Syndrome
4. Thalassemia

Options :

485584145705. 1
485584145706. 2
485584145707. 3
485584145708. 4

Question Number : 42 Question Id : 48558436427 Question Type : MCQ Option Shuffling : No Is Question Mandatory : No Calculator : None Response Time : N.A Think Time : N.A Minimum Instruction Time : 0

Correct Marks : 5 Wrong Marks : 1

Question Key Details :

Key	Value
Comprehension	Compl

ಈ ಗದ್ಯಭಾಗವನ್ನು ಓದಿ, ಮುಂದಿನ ಪ್ರಶ್ನೆಗಳಿಗೆ (ಪ್ರ. 41-45) ಉತ್ತರಿಸಿ.

ಮಾನವರು 23 ಜೋಡಿ ವರ್ಣತಂತುಗಳನ್ನು ಹೊಂದಿರುತ್ತಾರೆ. ಈ ಪೈಕಿ 22 ಜೋಡಿಗಳು ಪುರುಷರು ಮತ್ತು ಮಹಿಳೆಯರು ಇಬ್ಬರಲ್ಲೂ ಸಮನಾಗಿರುತ್ತವೆ. ಇವುಗಳನ್ನು ಅಲಿಂಗ ವರ್ಣತಂತುಗಳು ಎಂದು ಕರೆಯುತ್ತಾರೆ. ಮಹಿಳೆಯಲ್ಲಿ ಒಂದು ಜೋಡಿ X-ವರ್ಣತಂತು ಇರುತ್ತವೆ. ಆದರೆ ಪುರುಷರಲ್ಲಿ ಒಂದು X ಮತ್ತು ಒಂದು Y ವರ್ಣತಂತುಗಳಿದ್ದು, ಅವು ಪುರುಷರ ಗುಣಲಕ್ಷಣಗಳನ್ನು ನಿರ್ಧರಿಸುತ್ತವೆ.

ಮಾನವರಲ್ಲಿ ಪತ್ತೆ ಮಾಡಲಾದ ಹಲವಾರು ಅಸ್ವಸ್ಥತೆಗಳು ಬದಲಾದ ಅಥವಾ ಮಾರ್ಪಡಿತ ಜೀನ್ ಅಥವಾ ವರ್ಣತಂತುವನ್ನು ಅನುವಂಶಿಕವಾಗಿ ಪಡೆಯುವುದರೊಂದಿಗೆ ಸಂಬಂಧ ಹೊಂದಿವೆ. ಸ್ಥೂಲವಾಗಿ ಹೇಳುವುದಾದರೆ, ಅನುವಂಶಿಕ ಅಸ್ವಸ್ಥತೆಗಳನ್ನು ಎರಡು ವರ್ಗಗಳಾಗಿ ವಿಂಗಡಿಸಬಹುದು - ಮೆಂಡೆಲಿಯನ್ ಅಸ್ವಸ್ಥತೆಗಳು ಮತ್ತು ಕ್ರೋಮೋಸೋಮಲ್ ಅಸ್ವಸ್ಥತೆಗಳು.

'X' ವರ್ಣತಂತುವಿನಲ್ಲಿ ಒಂದರ ಗೈರುಹಾಜರಿಯಿಂದ ಉಂಟಾಗುವ ಒಂದು ಅಸ್ವಸ್ಥತೆ ಇದು -

1. ಟರ್ನರ್‌ನ ಸಿಂಡ್ರೋಮ್
2. ಡೌನ್‌ನ ಸಿಂಡ್ರೋಮ್
3. ಕ್ಲೈನ್‌ಫೆಲ್ಡರ್‌ನ ಸಿಂಡ್ರೋಮ್
4. ಥಾಲಸೇಮಿಯಾ

Options :

485584145705. 1
485584145706. 2
485584145707. 3
485584145708. 4

Question Number : 43 Question Id : 48558436428 Question Type : MCQ Option Shuffling : No Is Question Mandatory : No Calculator : None Response Time : N.A Think Time : N.A Minimum Instruction Time : 0

Correct Marks : 5 Wrong Marks : 1

Question Key Details :

Key	Value
Comprehension	Compl

Read the given paragraph and answer the question:

Humans have 23 pairs of chromosomes. 22 pairs are exactly same in both males and females; these are the autosomes. A pair of X-chromosome are present in the female, whereas the presence of an X and Y chromosome are determinant of the male characteristic.

A number of disorders in human beings have been found to be associated with the inheritance of changed or altered genes or chromosomes. Broadly, genetic disorder may be grouped into two categories-Mendelian disorders and Chromosomal disorders.

A haemophilic man marries a normal woman. What is the possibility that their child have haemophilia?

1. 75%

2. 25%

3. 0%

4. 50%

Options :

485584145709. 1

485584145710. 2

485584145711. 3

485584145712. 4

Question Number : 43 Question Id : 48558436428 Question Type : MCQ Option Shuffling : No Is Question Mandatory : No Calculator : None Response Time : N.A Think Time : N.A Minimum Instruction Time : 0

Correct Marks : 5 Wrong Marks : 1

Question Key Details :

Key	Value
Comprehension	Compl

ಈ ಗದ್ಯಭಾಗವನ್ನು ಓದಿ. ಮುಂದಿನ ಪ್ರಶ್ನೆಗಳಿಗೆ (ಪ್ರ. 41-45) ಉತ್ತರಿಸಿ.

ಮಾನವರು 23 ಜೋಡಿ ವರ್ಣತಂತುಗಳನ್ನು ಹೊಂದಿರುತ್ತಾರೆ. ಈ ಪೈಕಿ 22 ಜೋಡಿಗಳು ಪುರುಷರು ಮತ್ತು ಮಹಿಳೆಯರು ಇಬ್ಬರಲ್ಲೂ ಸಮನಾಗಿರುತ್ತವೆ. ಇವುಗಳನ್ನು ಅಲಿಂಗ ವರ್ಣತಂತುಗಳು ಎಂದು ಕರೆಯುತ್ತಾರೆ. ಮಹಿಳೆಯಲ್ಲಿ ಒಂದು ಜೋಡಿ X-ವರ್ಣತಂತು ಇರುತ್ತವೆ. ಆದರೆ ಪುರುಷರಲ್ಲಿ ಒಂದು X ಮತ್ತು ಒಂದು Y ವರ್ಣತಂತುಗಳಿದ್ದು, ಅವು ಪುರುಷರ ಗುಣಲಕ್ಷಣಗಳನ್ನು ನಿರ್ಧರಿಸುತ್ತವೆ.

ಮಾನವರಲ್ಲಿ ಪತ್ತೆ ಮಾಡಲಾದ ಹಲವಾರು ಅಸ್ವಸ್ಥತೆಗಳು ಬದಲಾದ ಅಥವಾ ಮಾರ್ಪಡಿತ ಜೀನ್ ಅಥವಾ ವರ್ಣತಂತುವನ್ನು ಅನುವಂಶಿಕವಾಗಿ ಪಡೆಯುವುದರೊಂದಿಗೆ ಸಂಬಂಧ ಹೊಂದಿವೆ. ಸ್ಥೂಲವಾಗಿ ಹೇಳುವುದಾದರೆ, ಅನುವಂಶಿಕ ಅಸ್ವಸ್ಥತೆಗಳನ್ನು ಎರಡು ವರ್ಗಗಳಾಗಿ ವಿಂಗಡಿಸಬಹುದು - ಮೆಂಡೆಲಿಯನ್ ಅಸ್ವಸ್ಥತೆಗಳು ಮತ್ತು ಕ್ರೋಮೋಸೋಮಲ್ ಅಸ್ವಸ್ಥತೆಗಳು.

ಕುಸುಮರೋಗಿ (ಹೀಮೋಫೀಲಿಯಾ)ದಿಂದ ಬಳಲುತ್ತಿರುವ ವ್ಯಕ್ತಿಯೊಬ್ಬ ಸಾಮಾನ್ಯ ಮಹಿಳೆಯನ್ನು ವಿವಾಹವಾಗುತ್ತಾನೆ. ಅವರಿಗೆ ಜನಿಸುವ ಮಗುವು ಕುಸುಮರೋಗವನ್ನು ಹೊಂದಿರುವ ಸಂಭವನೀಯತೆ ಎಷ್ಟು?

1. 75%

2. 25%

3. 0%

4. 50%

Options :

485584145709. 1

485584145710. 2

485584145711. 3

Question Number : 44 Question Id : 48558436429 Question Type : MCQ Option Shuffling : No Is Question Mandatory : No Calculator : None Response Time : N.A Think Time : N.A Minimum Instruction Time : 0

Correct Marks : 5 Wrong Marks : 1

Question Key Details :

Key	Value
Comprehension	Comp1

Read the given paragraph and answer the question:

Humans have 23 pairs of chromosomes. 22 pairs are exactly same in both males and females; these are the autosomes. A pair of X-chromosome are present in the female, whereas the presence of an X and Y chromosome are determinant of the male characteristic.

A number of disorders in human beings have been found to be associated with the inheritance of changed or altered genes or chromosomes. Broadly, genetic disorder may be grouped into two categories-Mendelian disorders and Chromosomal disorders.

Which of the following is an example of a sex linked disease?

1. Ascariasis
2. Colour blindness
3. Thalassemia
4. Phenylketonuria

Options :

485584145713. 1

485584145714. 2

485584145715. 3

485584145716. 4

Question Number : 44 Question Id : 48558436429 Question Type : MCQ Option Shuffling : No Is Question Mandatory : No Calculator : None Response Time : N.A Think Time : N.A Minimum Instruction Time : 0

Correct Marks : 5 Wrong Marks : 1

Question Key Details :

Key	Value
Comprehension	Comp1

ಈ ಗದ್ಯಭಾಗವನ್ನು ಓದಿ, ಮುಂದಿನ ಪ್ರಶ್ನೆಗಳಿಗೆ (ಪ್ರ. 41-45) ಉತ್ತರಿಸಿ.

ಮಾನವರು 23 ಜೋಡಿ ವರ್ಣತಂತುಗಳನ್ನು ಹೊಂದಿರುತ್ತಾರೆ. ಈ ಪೈಕಿ 22 ಜೋಡಿಗಳು ಪುರುಷರು ಮತ್ತು ಮಹಿಳೆಯರು ಇಬ್ಬರಲ್ಲೂ ಸಮನಾಗಿರುತ್ತವೆ. ಇವುಗಳನ್ನು ಅಲಿಂಗ ವರ್ಣತಂತುಗಳು ಎಂದು ಕರೆಯುತ್ತಾರೆ. ಮಹಿಳೆಯಲ್ಲಿ ಒಂದು ಜೋಡಿ X-ವರ್ಣತಂತು ಇರುತ್ತವೆ, ಆದರೆ ಪುರುಷರಲ್ಲಿ ಒಂದು X ಮತ್ತು ಒಂದು Y ವರ್ಣತಂತುಗಳಿದ್ದು, ಅವು ಪುರುಷರ ಗುಣಲಕ್ಷಣಗಳನ್ನು ನಿರ್ಧರಿಸುತ್ತವೆ.

ಮಾನವರಲ್ಲಿ ಪತ್ತೆ ಮಾಡಲಾದ ಹಲವಾರು ಅಸ್ವಸ್ಥತೆಗಳು ಬದಲಾದ ಅಥವಾ ಮಾರ್ಪಡಿತ ಜೀನ್ ಅಥವಾ ವರ್ಣತಂತುವನ್ನು ಅನುವಂಶಿಕವಾಗಿ ಪಡೆಯುವುದರಿಂದಾಗಿ ಸಂಬಂಧ ಹೊಂದಿವೆ. ಸ್ಥೂಲವಾಗಿ ಹೇಳುವುದಾದರೆ, ಅನುವಂಶಿಕ ಅಸ್ವಸ್ಥತೆಗಳನ್ನು ಎರಡು ವರ್ಗಗಳಾಗಿ ವಿಂಗಡಿಸಬಹುದು - ಮೆಂಡೆಲಿಯನ್ ಅಸ್ವಸ್ಥತೆಗಳು ಮತ್ತು ಕ್ರೋಮೋಸೋಮಲ್ ಅಸ್ವಸ್ಥತೆಗಳು.

ಲಿಂಗ-ಸಂಬಂಧಿ ಕಾಯಿಲೆಗೆ ಈ ಕೆಳಗಿನವುಗಳಲ್ಲಿ ಯಾವುದು ಉದಾಹರಣೆಯಾಗಿದೆ?

1. ಅಸ್ಕರಿಯಾಸಿಸ್
2. ವರ್ಣಾಂಧತೆ
3. ಧಾಲಸ್ಸೇಮಿಯಾ
4. ಫೆನ್ಯೆಲಿಕ್ಸೋನ್ಯೂರಿಯಾ

Options :

485584145713. 1
485584145714. 2
485584145715. 3
485584145716. 4

Question Number : 45 Question Id : 48558436430 Question Type : MCQ Option Shuffling : No Is Question Mandatory : No Calculator : None Response Time : N.A Think Time : N.A Minimum Instruction Time : 0

Correct Marks : 5 Wrong Marks : 1

Question Key Details :

Key	Value
Comprehension	Compl

Read the given paragraph and answer the question:

Humans have 23 pairs of chromosomes. 22 pairs are exactly same in both males and females; these are the autosomes. A pair of X-chromosome are present in the female, whereas the presence of an X and Y chromosome are determinant of the male characteristic.

A number of disorders in human beings have been found to be associated with the inheritance of changed or altered genes or chromosomes. Broadly, genetic disorder may be grouped into two categories-Mendelian disorders and Chromosomal disorders.

A colour blind man marries a carrier woman. Choose the possible progeny outcome.

1. All sons are born colourblind, while 50% the daughter born will be normal.
2. All children (sons and daughters) are born colour blind.
3. All daughters are normal whereas 50% of the sons born will be colour blind.
4. 50% of daughters and 50% of sons born will be colour blind.

Options :

485584145717. 1
485584145718. 2
485584145719. 3
485584145720. 4

Question Number : 45 Question Id : 48558436430 Question Type : MCQ Option Shuffling : No Is Question Mandatory : No Calculator : None Response Time : N.A Think Time : N.A Minimum Instruction Time : 0

Correct Marks : 5 Wrong Marks : 1

Question Key Details :

Key	Value
Comprehension	Comp1

ಈ ಗದ್ಯಭಾಗವನ್ನು ಓದಿ. ಮುಂದಿನ ಪ್ರಶ್ನೆಗಳಿಗೆ (ಪ್ರ. 41-45) ಉತ್ತರಿಸಿ.

ಮಾನವರು 23 ಜೋಡಿ ವರ್ಣತಂತುಗಳನ್ನು ಹೊಂದಿರುತ್ತಾರೆ. ಈ ಪೈಕಿ 22 ಜೋಡಿಗಳು ಪುರುಷರು ಮತ್ತು ಮಹಿಳೆಯರು ಇಬ್ಬರಲ್ಲೂ ಸಮನಾಗಿರುತ್ತವೆ. ಇವುಗಳನ್ನು ಅಲಿಂಗ ವರ್ಣತಂತುಗಳು ಎಂದು ಕರೆಯುತ್ತಾರೆ. ಮಹಿಳೆಯಲ್ಲಿ ಒಂದು ಜೋಡಿ X-ವರ್ಣತಂತು ಇರುತ್ತವೆ. ಆದರೆ ಪುರುಷರಲ್ಲಿ ಒಂದು X ಮತ್ತು ಒಂದು Y ವರ್ಣತಂತುಗಳಿದ್ದು, ಅವು ಪುರುಷರ ಗುಣಲಕ್ಷಣಗಳನ್ನು ನಿರ್ಧರಿಸುತ್ತವೆ.

ಮಾನವರಲ್ಲಿ ಪತ್ತೆ ಮಾಡಲಾದ ಹಲವಾರು ಅಸ್ವಸ್ಥತೆಗಳು ಬದಲಾದ ಅಥವಾ ಮಾರ್ಪಡಿತ ಜೀನ್ ಅಥವಾ ವರ್ಣತಂತುವನ್ನು ಅನುವಂಶಿಕವಾಗಿ ಪಡೆಯುವುದರಿಂದಾಗಿ ಸಂಬಂಧ ಹೊಂದಿವೆ. ಸ್ಥೂಲವಾಗಿ ಹೇಳುವುದಾದರೆ, ಅನುವಂಶಿಕ ಅಸ್ವಸ್ಥತೆಗಳನ್ನು ಎರಡು ವರ್ಗಗಳಾಗಿ ವಿಂಗಡಿಸಬಹುದು - ಮೆಂಡಲಿಯನ್ ಅಸ್ವಸ್ಥತೆಗಳು ಮತ್ತು ಕ್ರೋಮೋಸೋಮಲ್ ಅಸ್ವಸ್ಥತೆಗಳು.

ವರ್ಣಾಂಧತೆಯನ್ನು ಹೊಂದಿರುವ ವ್ಯಕ್ತಿಯು ವಾಹಕ ಮಹಿಳೆಯನ್ನು ವಿವಾಹವಾಗುತ್ತಾನೆ. ಸಂಭಾವ್ಯ ಸಂತಾನದ ಫಲಿತಾಂಶವನ್ನು ಆಯ್ಕೆ ಮಾಡಿ.

1. ಎಲ್ಲ ಗಂಡುಮಕ್ಕಳು ವರ್ಣಾಂಧತೆಯೊಂದಿಗೆ ಜನಿಸುತ್ತಾರೆ, ಆದರೆ ಜನಿಸುವ ಹೆಣ್ಣು ಸಾಮಾನ್ಯಳಾಗಿರುತ್ತಾಳೆ.
2. ಎಲ್ಲ ಮಕ್ಕಳು (ಗಂಡು ಮತ್ತು ಹೆಣ್ಣು) ವರ್ಣಾಂಧತೆಯೊಂದಿಗೆ ಜನಿಸುತ್ತಾರೆ.
3. ಎಲ್ಲ ಹೆಣ್ಣುಮಕ್ಕಳು ಸಾಮಾನ್ಯರಾಗಿರುತ್ತಾರೆ ಆದರೆ ಹುಟ್ಟಿದ ಗಂಡು ಮಕ್ಕಳಲ್ಲಿ 50% ಮಂದಿ ವರ್ಣಾಂಧತೆ ಹೊಂದಿರುತ್ತಾರೆ.
4. ಜನಿಸುವ ಮಕ್ಕಳಲ್ಲಿ 50% ಹೆಣ್ಣು ಮಕ್ಕಳು ಮತ್ತು 50% ಗಂಡು ಮಕ್ಕಳು ವರ್ಣಾಂಧತೆ ಹೊಂದಿರುತ್ತಾರೆ.

Options :

485584145717. 1

485584145718. 2

485584145719. 3

485584145720. 4

Sub-Section Number :

3

Sub-Section Id :

4855842692

Question Shuffling Allowed :

No

Is Section Default? :

null

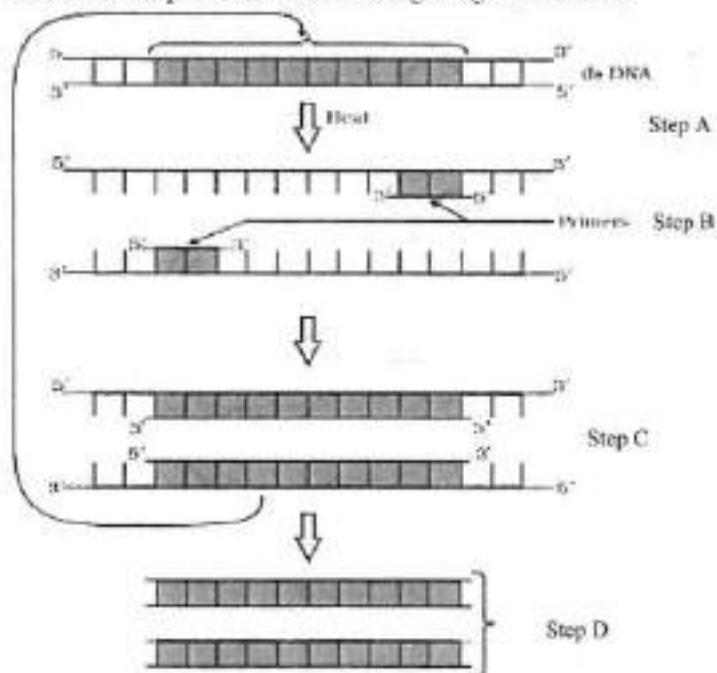
Question Number : 46 Question Id : 48558436431 Question Type : MCQ Option Shuffling : No Is Question Mandatory : No Calculator : None Response Time : N.A Think Time : N.A Minimum Instruction Time : 0

Correct Marks : 5 Wrong Marks : 1

Question Key Details :

Key	Value
Comprehension	Comp2

Answer the questions from the figure given below:



If the reaction starts with one molecule of DNA, the number of cycles required to produce one billion amplified products is:

1. 8 cycles
2. 16 cycles
3. 30 cycles
4. 25 cycles

Options :

485584145721. 1

485584145722. 2

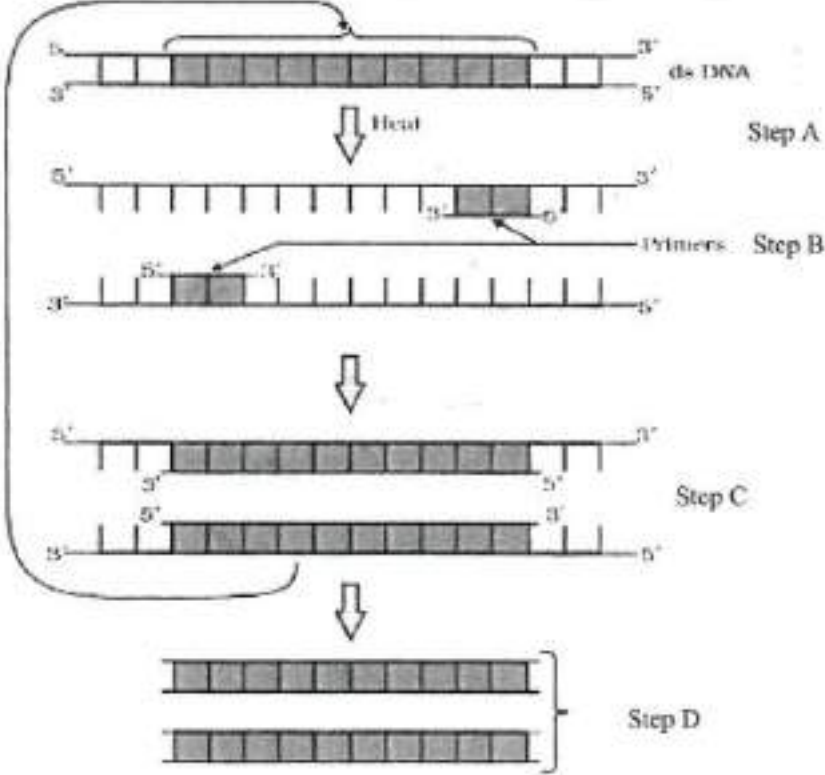
485584145723. 3

485584145724. 4

Question Number : 46 Question Id : 48558436431 Question Type : MCQ Option Shuffling : No Is Question Mandatory : No Calculator : None Response Time : N.A Think Time : N.A Minimum Instruction Time : 0
 Correct Marks : 5 Wrong Marks : 1
 Question Key Details :

Key	Value
Comprehension	Comp2

ಈ ಚಿತ್ರವನ್ನು ಗಮನಿಸಿ, ಮುಂದಿನ ಪ್ರಶ್ನೆಗಳಿಗೆ (ಪ್ರ. 46-50) ಉತ್ತರಿಸಿ:



DNA ಯ ಒಂದು ಮಾದ್ಯಲಿನಿಂದ ಪ್ರತಿಕ್ರಿಯೆಯು ಆರಂಭವಾದರೆ, 1 ಶತಕೋಟಿ ವರ್ಧಿತ ಉತ್ಪನ್ನಗಳನ್ನು ತಯಾರಿಸಲು ಅಗತ್ಯವಿರುವ ಆವರ್ತನಗಳು:

1. 8 ಆವರ್ತನಗಳು
2. 16 ಆವರ್ತನಗಳು
3. 30 ಆವರ್ತನಗಳು
4. 25 ಆವರ್ತನಗಳು

Options :

485584145721. 1
485584145722. 2
485584145723. 3
485584145724. 4

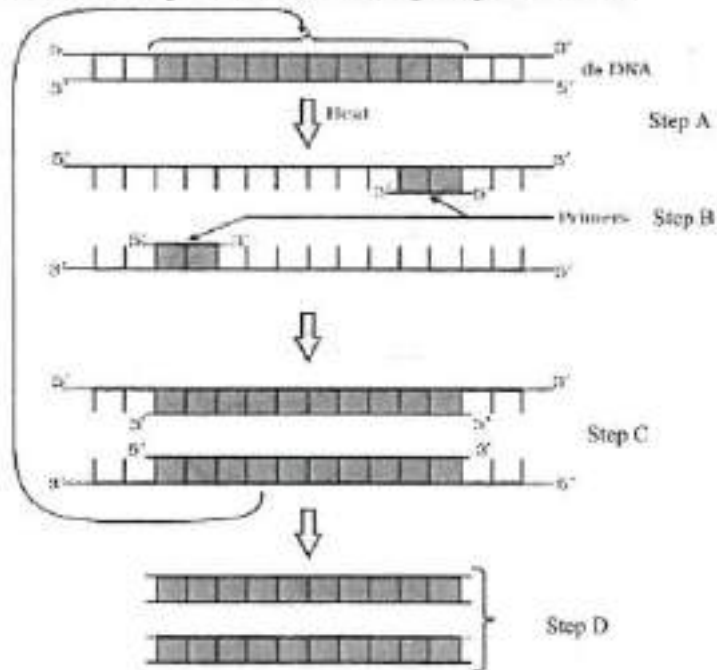
Question Number : 47 Question Id : 48558436432 Question Type : MCQ Option Shuffling : No Is Question Mandatory : No Calculator : None Response Time : N.A Think Time : N.A Minimum Instruction Time : 0

Correct Marks : 5 Wrong Marks : 1

Question Key Details :

Key	Value
Comprehension	Comp2

Answer the questions from the figure given below:



'Taq' in Taq polymerase stands for:

1. *Thermal aqua*
2. *Thermal aquaticus*
3. *Thermas aqua*
4. *Thermus aquaticus*

Options :

- 485584145725. 1
- 485584145726. 2
- 485584145727. 3
- 485584145728. 4

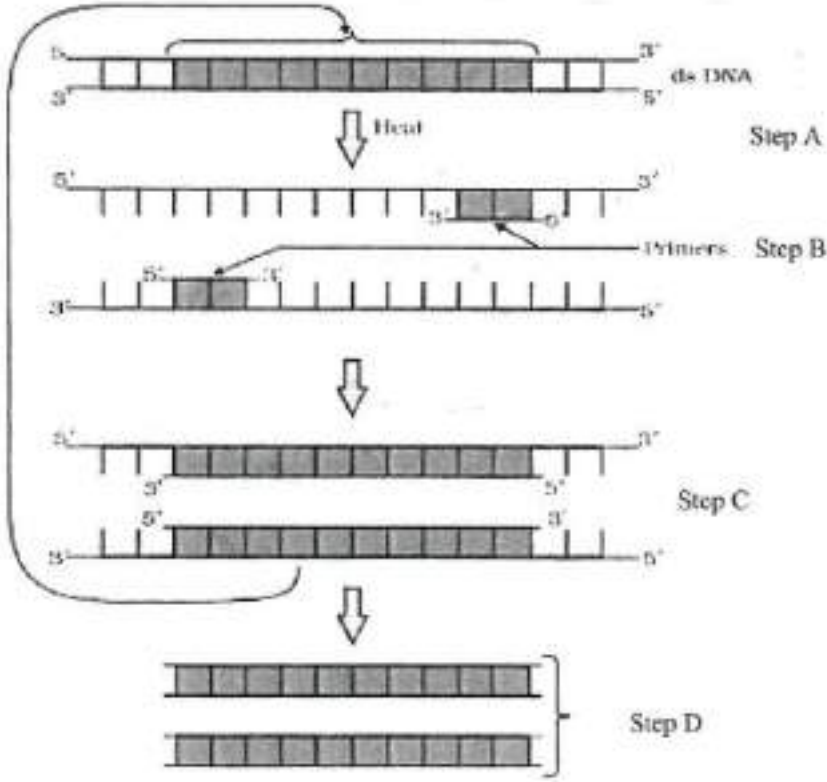
Question Number : 47 Question Id : 48558436432 Question Type : MCQ Option Shuffling : No Is Question Mandatory : No Calculator : None Response Time : N.A Think Time : N.A Minimum Instruction Time : 0

Correct Marks : 5 Wrong Marks : 1

Question Key Details :

Key	Value
Comprehension	Comp2

ಈ ಚಿತ್ರವನ್ನು ಗಮನಿಸಿ, ಮುಂದಿನ ಪ್ರಶ್ನೆಗಳಿಗೆ (ಪ್ರ. 46-50) ಉತ್ತರಿಸಿ:



ತಕ್ ಪಾಲಿಮರೇಸ್‌ನಲ್ಲಿ, 'Taq' ಎಂದರೆ:

1. ಥರ್ಮಲ್ ಅಕ್ಯಾ
2. ಥರ್ಮಲ್ ಅಕ್ಯಾಟಿಕಸ್
3. ಥರ್ಮಸ್ ಅಕ್ಯಾ
4. ಥರ್ಮಸ್ ಅಕ್ಯಾಟಿಕಸ್

Options :

485584145725. 1
485584145726. 2
485584145727. 3
485584145728. 4

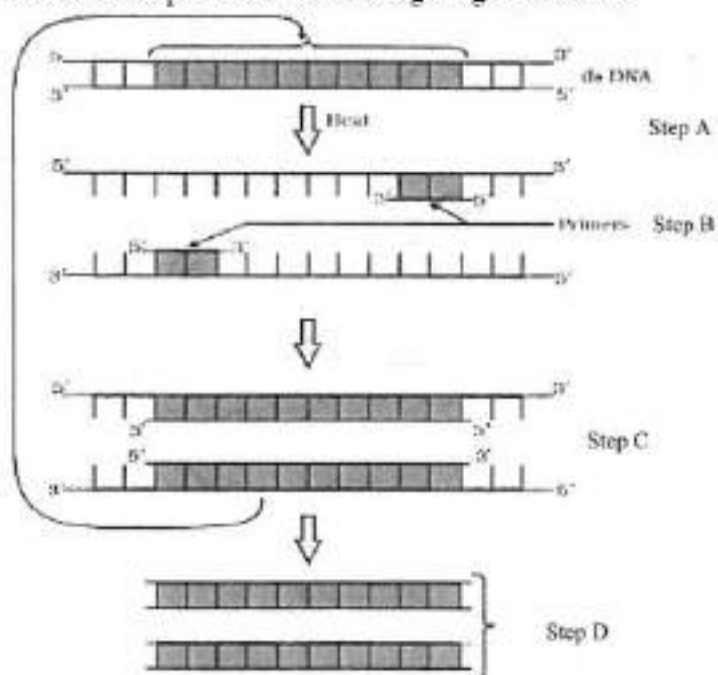
Question Number : 48 Question Id : 48558436433 Question Type : MCQ Option Shuffling : No Is Question Mandatory : No Calculator : None Response Time : N.A Think Time : N.A Minimum Instruction Time : 0

Correct Marks : 5 Wrong Marks : 1

Question Key Details :

Key	Value
Comprehension	Comp2

Answer the questions from the figure given below:



Taq polymerase is the preferred DNA polymerase in PCR because :

1. It is obtained from a fast breeding bacteria.
2. It can bind with the primers efficiently.
3. It remains active during high temperature.
4. It has high turnover rate.

Options :

- 485584145729. 1
- 485584145730. 2
- 485584145731. 3
- 485584145732. 4

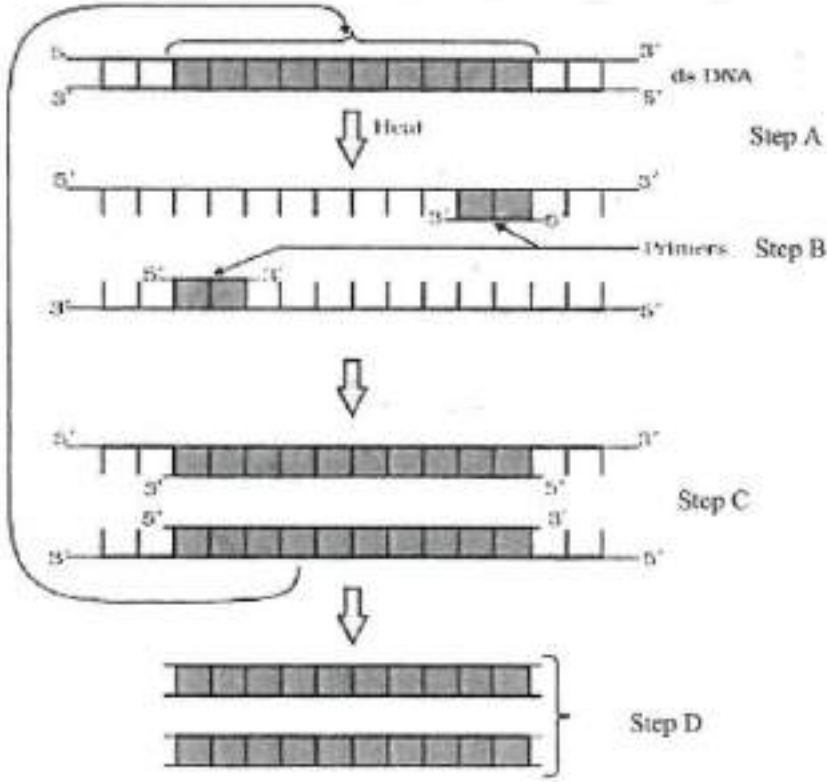
Question Number : 48 Question Id : 48558436433 Question Type : MCQ Option Shuffling : No Is Question Mandatory : No Calculator : None Response Time : N.A Think Time : N.A Minimum Instruction Time : 0

Correct Marks : 5 Wrong Marks : 1

Question Key Details :

Key	Value
Comprehension	Comp2

ಈ ಚಿತ್ರವನ್ನು ಗಮನಿಸಿ, ಮುಂದಿನ ಪ್ರಶ್ನೆಗಳಿಗೆ (ಪ್ರ. 46-50) ಉತ್ತರಿಸಿ:



PCR ನಲ್ಲಿ ತಾಪಾಲಿಮರೇಸ್ ಆದ್ಯತೆಯ DNA ಪಾಲಿಮರೇಸ್ ಆಗಿದೆ. ಏಕೆಂದರೆ:

1. ಇದನ್ನು ವೇಗವಾಗಿ ತಳಿ ಸಂವರ್ಧನೆಗೊಳ್ಳುವ ಬ್ಯಾಕ್ಟೀರಿಯಾದಿಂದ ಪಡೆಯಬಹುದು.
2. ಅದು ಪ್ರೈಮರ್‌ಗಳೊಂದಿಗೆ ದಕ್ಷವಾಗಿ ಕೂಡಿಕೊಳ್ಳಬಲ್ಲದು
3. ಹೆಚ್ಚಿನ ತಾಪಮಾನದಲ್ಲೂ ಅದು ಸಕ್ರಿಯವಾಗಿ ಉಳಿಯುತ್ತದೆ.
4. ಅದು ಹೆಚ್ಚಿನ ವಹಿವಾಟು ದರವನ್ನು ಹೊಂದಿದೆ.

Options :

485584145729. 1

485584145730. 2

485584145731. 3

485584145732. 4

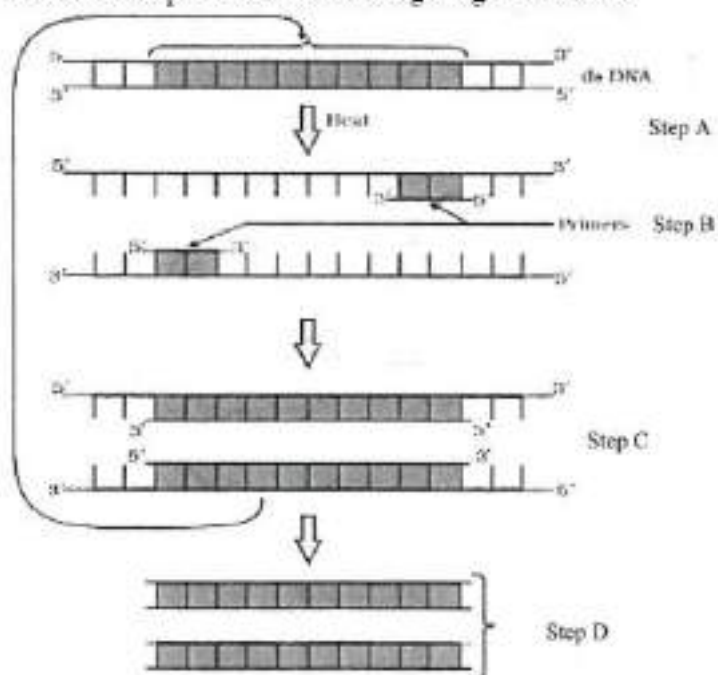
Question Number : 49 Question Id : 48558436434 Question Type : MCQ Option Shuffling : No Is Question Mandatory : No Calculator : None Response Time : N.A Think Time : N.A Minimum Instruction Time : 0

Correct Marks : 5 Wrong Marks : 1

Question Key Details :

Key	Value
Comprehension	Comp2

Answer the questions from the figure given below:



The step 'D' in the figure depicts:

1. Region where the restriction enzyme cuts.
2. An important gene of interest
3. Primer joining region
4. Only amplified product

Options :

- 485584145733. 1
- 485584145734. 2
- 485584145735. 3
- 485584145736. 4

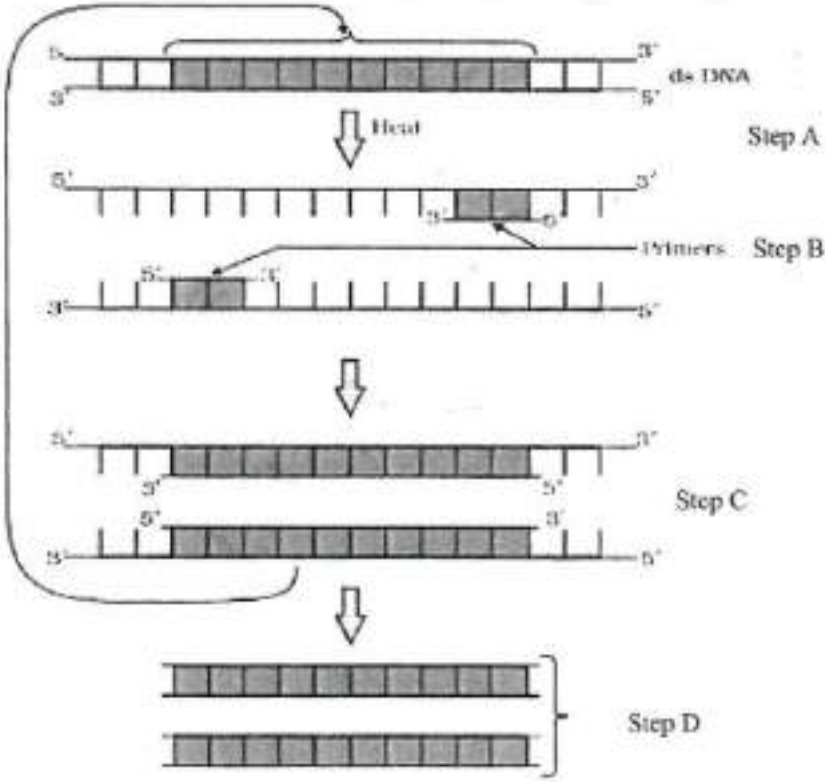
Question Number : 49 Question Id : 48558436434 Question Type : MCQ Option Shuffling : No Is Question Mandatory : No Calculator : None Response Time : N.A Think Time : N.A Minimum Instruction Time : 0

Correct Marks : 5 Wrong Marks : 1

Question Key Details :

Key	Value
Comprehension	Comp2

ಈ ಚಿತ್ರವನ್ನು ಗಮನಿಸಿ, ಮುಂದಿನ ಪ್ರಶ್ನೆಗಳಿಗೆ (ಪ್ರ. 46-50) ಉತ್ತರಿಸಿ:



ಈ ಚಿತ್ರದಲ್ಲಿ ಹಂತ 'D' ಇದನ್ನು ವಿವರಿಸುತ್ತದೆ:

1. ನಿರ್ಬಂಧ ಕಿಣ್ವವು ಕತ್ತರಿಸುವ ಪ್ರದೇಶ.
2. ಒಂದು ಪ್ರಮುಖ ಅಪೇಕ್ಷಿತ ಜೀನ್
3. ಪ್ರಾಥಮಿಕವಾಗಿ ಸೇರುವ ಪ್ರದೇಶ
4. ವರ್ಧಿತ ಉತ್ಪನ್ನ ಮಾತ್ರ

Options :

485584145733. 1
485584145734. 2
485584145735. 3
485584145736. 4

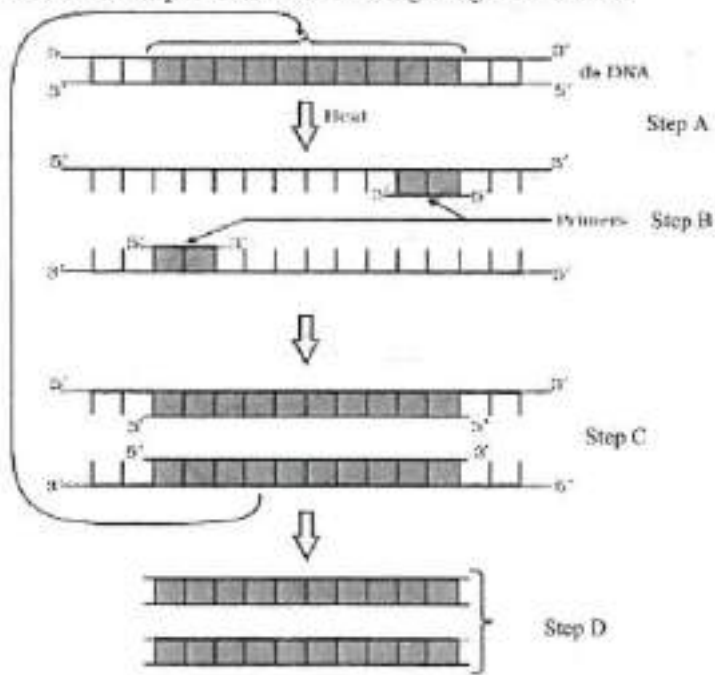
Question Number : 50 Question Id : 48558436435 Question Type : MCQ Option Shuffling : No Is Question Mandatory : No Calculator : None Response Time : N.A Think Time : N.A Minimum Instruction Time : 0

Correct Marks : 5 Wrong Marks : 1

Question Key Details :

Key	Value
Comprehension	Comp2

Answer the questions from the figure given below:



The step 'B' in the figure is called as:

1. Termination
2. Extension
3. Annealing
4. Reannealing

Options :

485584145737. 1
 485584145738. 2
 485584145739. 3
 485584145740. 4

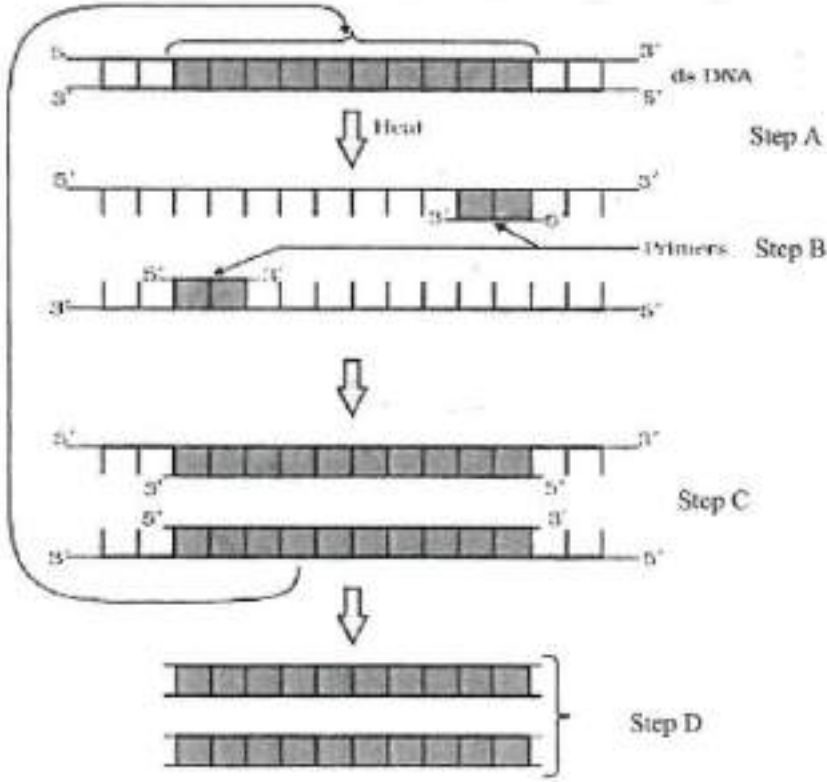
Question Number : 50 Question Id : 48558436435 Question Type : MCQ Option Shuffling : No Is Question Mandatory : No Calculator : None Response Time : N.A Think Time : N.A Minimum Instruction Time : 0

Correct Marks : 5 Wrong Marks : 1

Question Key Details :

Key	Value
Comprehension	Comp2

ಈ ಚಿತ್ರವನ್ನು ಗಮನಿಸಿ, ಮುಂದಿನ ಪ್ರಶ್ನೆಗಳಿಗೆ (ಪ್ರ. 46-50) ಉತ್ತರಿಸಿ:



ಈ ಚಿತ್ರದಲ್ಲಿ ಹಂತ 'B' ಯನ್ನು ಹೀಗೆ ಕರೆಯುತ್ತಾರೆ:

1. ಮುಕ್ತಾಯ
2. ವಿಸ್ತರಣೆ
3. ಹೊಂದಾಣಿಕೆ
4. ಮರು ಹೊಂದಾಣಿಕೆ

Options :

485584145737. 1
485584145738. 2
485584145739. 3
485584145740. 4

Business Studies

Group Number :	3
Group Id :	485584823
Group Maximum Duration :	45
Group Minimum Duration :	45
Show Attended Group? :	No
Edit Attended Group? :	No
Break time :	0
Group Marks :	200

Is this Group for Examiner? : No
Examiner permission : Cant View
Show Progress Bar? : No

Business Studies

Section Id : 485584947
Section Number : 1
Section type : Online
Mandatory or Optional : Mandatory
Number of Questions : 50
Number of Questions to be attempted : 40
Section Marks : 200
Enable Mark as Answered Mark for Review and Clear Response : Yes
Maximum Instruction Time : 0
Sub-Section Number : 1
Sub-Section Id : 4855842693
Question Shuffling Allowed : Yes
Is Section Default? : null

Question Number : 51 Question Id : 48558436436 Question Type : MCQ Option Shuffling : No Is Question Mandatory :
No Calculator : None Response Time : N.A Think Time : N.A Minimum Instruction Time : 0
Correct Marks : 5 Wrong Marks : 1

Question Key Details :

Key	Value
Comprehension	MCQ

Which of the following is not an importance of management ?

1. Management is group activity
2. Management creates a dynamic organization
3. Management helps in the development of society
4. Management increases efficiency

Options :

485584145741. 1
485584145742. 2
485584145743. 3
485584145744. 4

Question Number : 51 Question Id : 48558436436 Question Type : MCQ Option Shuffling : No Is Question Mandatory :
No Calculator : None Response Time : N.A Think Time : N.A Minimum Instruction Time : 0
Correct Marks : 5 Wrong Marks : 1

Question Key Details :

Key	Value
Comprehension	MCQ

ನಿರ್ವಹಣೆಗೆ ಸಂಬಂಧಿಸಿದಂತೆ ಈ ಕೆಳಗಿನ ಯಾವ ಅಂಶವು ಪ್ರಾಮುಖ್ಯವಲ್ಲ?

1. ನಿರ್ವಹಣೆಯು ಒಂದು ಗುಂಪು ಚಟುವಟಿಕೆಯಾಗಿದೆ
2. ನಿರ್ವಹಣೆಯು ಚಲನಶೀಲ ಸಂಘಟನೆಯನ್ನು ಸೃಷ್ಟಿಸುತ್ತದೆ
3. ನಿರ್ವಹಣೆಯು ಸಮಾಜದ ಅಭಿವೃದ್ಧಿಗೆ ಸಹಾಯಕವಾಗಿದೆ
4. ನಿರ್ವಹಣೆಯು ದಕ್ಷತೆಯನ್ನು ಹೆಚ್ಚಿಸುತ್ತದೆ

Options :

485584145741. 1
485584145742. 2
485584145743. 3
485584145744. 4

Question Number : 52 Question Id : 48558436437 Question Type : MCQ Option Shuffling : No Is Question Mandatory : No Calculator : None Response Time : N.A Think Time : N.A Minimum Instruction Time : 0

Correct Marks : 5 Wrong Marks : 1

Question Key Details :

Key	Value
Comprehension	MCQ

Mc.Donalds, the fast food giant made major changes in its menu to be able to survive in Indian market. Which feature of management is reflected in above case ?

1. Management is an intangible force
2. Management is a dynamic function
3. Management is all pervasive
4. Management is multidimensional

Options :

485584145745. 1
485584145746. 2
485584145747. 3
485584145748. 4

Question Number : 52 Question Id : 48558436437 Question Type : MCQ Option Shuffling : No Is Question Mandatory : No Calculator : None Response Time : N.A Think Time : N.A Minimum Instruction Time : 0

Correct Marks : 5 Wrong Marks : 1

Question Key Details :

Key	Value
Comprehension	MCQ

ಮ್ಯಾಕ್ ಡೊನಾಲ್ಡ್ ಎಂಬ ದೈತ್ಯ ಫಾಸ್ಟ್‌ಫುಡ್ ಕಂಪನಿಯು ಭಾರತೀಯ ಮಾರುಕಟ್ಟೆಯಲ್ಲಿ ಉಳಿಯಲು ತನ್ನ ಮೆನುವಿನಲ್ಲಿ ಪ್ರಮುಖ ಬದಲಾವಣೆಗಳನ್ನು ಮಾಡಿದೆ. ನಿರ್ವಹಣೆಯ ಯಾವ ವೈಶಿಷ್ಟ್ಯವು ಇದಕ್ಕೆ ಅನ್ವಯವಾಗುತ್ತದೆ?

1. ನಿರ್ವಹಣೆಯ ಒಂದು ಅಗೋಚರ ಶಕ್ತಿಯಾಗಿದೆ
2. ನಿರ್ವಹಣೆಯು ಚಲನಶೀಲ ಕಾರ್ಯವಾಗಿದೆ
3. ನಿರ್ವಹಣೆಯು ಸರ್ವವ್ಯಾಪಕವಾಗಿದೆ
4. ನಿರ್ವಹಣೆಯು ಬಹು ಆಯಾಮಗಳನ್ನು ಹೊಂದಿದೆ

Options :

485584145745. 1
485584145746. 2
485584145747. 3
485584145748. 4

Question Number : 53 Question Id : 48558436438 Question Type : MCQ Option Shuffling : No Is Question Mandatory : No Calculator : None Response Time : N.A Think Time : N.A Minimum Instruction Time : 0

Correct Marks : 5 Wrong Marks : 1

Question Key Details :

Key	Value
Comprehension	MCQ

"Planning is an Activity which enables a manager to look ahead and anticipate changes." Identify the point of Importance of Planning.

1. Planning reduces the risk of uncertainty
2. Planning facilitates decision making
3. Planning establishes standards for controlling
4. Planning provide directions

Options :

485584145749. 1
485584145750. 2
485584145751. 3
485584145752. 4

Question Number : 53 Question Id : 48558436438 Question Type : MCQ Option Shuffling : No Is Question Mandatory : No Calculator : None Response Time : N.A Think Time : N.A Minimum Instruction Time : 0

Correct Marks : 5 Wrong Marks : 1

Question Key Details :

Key	Value
Comprehension	MCQ

"ಯೋಜಿಸುವಿಕೆಯು ವ್ಯವಸ್ಥಾಪಕನಿಗೆ ಭವಿಷ್ಯದಡೆಗೆ ದೃಷ್ಟಿ ಹಾಯಿಸಲು ಮತ್ತು ಭವಿಷ್ಯದ ಬದಲಾವಣೆಗಳನ್ನು ನಿರೀಕ್ಷಿಸಲು ಅನುವು ಮಾಡಿಕೊಡುವ ಚಟುವಟಿಕೆಯಾಗಿದೆ: ಯೋಜನೆಯ ಯಾವ ಪ್ರಾಮುಖ್ಯತೆಯು ಈ ಹೇಳಿಕೆಗೆ ಅನ್ವಯವಾಗುತ್ತದೆ?

1. ಯೋಜಿಸುವಿಕೆಯು ಅನಿಶ್ಚಿತತೆಯ ಅಪಾಯಗಳನ್ನು ಕಡಿಮೆ ಮಾಡುತ್ತದೆ
2. ಯೋಜಿಸುವಿಕೆಯು ನಿರ್ಧಾರ ತೆಗೆದುಕೊಳ್ಳುವಿಕೆಗೆ ಅನುವು ಮಾಡಿಕೊಡುತ್ತದೆ
3. ಯೋಜಿಸುವಿಕೆಯು ನಿಯಂತ್ರಿಸುವುದಕ್ಕಾಗಿ ಶಿಷ್ಟಗಳನ್ನು ಸ್ಥಾಪಿಸುತ್ತದೆ
4. ಯೋಜಿಸುವಿಕೆಯು ನಿರ್ದೇಶನಗಳನ್ನು ಕೊಡುತ್ತದೆ

Options :

485584145749. 1
485584145750. 2
485584145751. 3
485584145752. 4

Question Number : 54 Question Id : 48558436439 Question Type : MCQ Option Shuffling : No Is Question Mandatory : No Calculator : None Response Time : N.A Think Time : N.A Minimum Instruction Time : 0

Correct Marks : 5 Wrong Marks : 1

Question Key Details :

Key	Value
Comprehension	MCQ

Ravi is working as supervisor with Zinc limited. Identify the level of management at which Ravi is employed.

1. Top Management
2. Middle Management
3. Operational Management
4. Apex Management

Options :

485584145753. 1
485584145754. 2
485584145755. 3
485584145756. 4

Question Number : 54 Question Id : 48558436439 Question Type : MCQ Option Shuffling : No Is Question Mandatory : No Calculator : None Response Time : N.A Think Time : N.A Minimum Instruction Time : 0

Correct Marks : 5 Wrong Marks : 1

Question Key Details :

Key	Value
Comprehension	MCQ

ರವಿ ಅವರು ಝಂಕ್ ಲಿಮಿಟೆಡ್‌ನೊಂದಿಗೆ ಮೇಲ್ವಿಚಾರಕರಾಗಿ ಕೆಲಸ ಮಾಡುತ್ತಿದ್ದಾರೆ. ರವಿ ಕೆಲಸ ಮಾಡುತ್ತಿರುವ ನಿರ್ವಹಣೆಯ ಮಟ್ಟವನ್ನು ಗುರುತಿಸಿ.

1. ಟಾಪ್ ಮ್ಯಾನೇಜ್‌ಮೆಂಟ್
2. ಮಧ್ಯಮ ನಿರ್ವಹಣೆ
3. ಕಾರ್ಯ ನಿರ್ವಹಣೆ
4. ಅಪೆಕ್ಸ್ ನಿರ್ವಹಣೆ

Options :

485584145753. 1
485584145754. 2
485584145755. 3
485584145756. 4

Question Number : 55 Question Id : 48558436440 Question Type : MCQ Option Shuffling : No Is Question Mandatory : No Calculator : None Response Time : N.A Think Time : N.A Minimum Instruction Time : 0

Correct Marks : 5 Wrong Marks : 1

Question Key Details :

Key	Value
Comprehension	MCQ

In this type of Organizational structure, the cost may increase since there may be a duplication of activities across products. Identify the organizational structure.

1. Functional Structure
2. Delegated Structure
3. Divisional Structure
4. Informal Structure

Options :

485584145757. 1
485584145758. 2
485584145759. 3
485584145760. 4

Question Number : 55 Question Id : 48558436440 Question Type : MCQ Option Shuffling : No Is Question Mandatory : No Calculator : None Response Time : N.A Think Time : N.A Minimum Instruction Time : 0

Correct Marks : 5 Wrong Marks : 1

Question Key Details :

Key	Value
Comprehension	MCQ

ಯಾವ ಸಂಘಟನಾ ರಚನೆಯಲ್ಲಿ ಉತ್ಪನ್ನಗಳಿಗೆ ಸಂಬಂಧಿಸಿದ ಚಟುವಟಿಕೆಗಳು ಪ್ರನರಾವರ್ತನೆಯಾಗಬಹುದಾದ್ದರಿಂದ, ವೆಚ್ಚಗಳ ಹೆಚ್ಚಳಕ್ಕೆ ದಾರಿ ಮಾಡಿಕೊಡುತ್ತದೆ?

1. ಕಾರ್ಯಾತ್ಮಕ ರಚನೆ
2. ನಿಯೋಜಿತ ರಚನೆ
3. ವಿಭಾಗೀಯ ರಚನೆ
4. ಅನೌಪಚಾರಿಕ ರಚನೆ

Options :

485584145757. 1
485584145758. 2
485584145759. 3
485584145760. 4

Question Number : 56 Question Id : 48558436441 Question Type : MCQ Option Shuffling : No Is Question Mandatory : No Calculator : None Response Time : N.A Think Time : N.A Minimum Instruction Time : 0

Correct Marks : 5 Wrong Marks : 1

Question Key Details :

Key	Value
Comprehension	MCQ

Divisional Structure is based on _____.

1. Product Lines
2. Functional Lines
3. Informal Basis
4. Occupational Specialization

Options :

485584145761. 1
485584145762. 2
485584145763. 3
485584145764. 4

Question Number : 56 Question Id : 48558436441 Question Type : MCQ Option Shuffling : No Is Question Mandatory : No Calculator : None Response Time : N.A Think Time : N.A Minimum Instruction Time : 0

Correct Marks : 5 Wrong Marks : 1

Question Key Details :

Key	Value
Comprehension	MCQ

ವಿಭಾಗೀಯ ರಚನೆಯು _____ ಅಧರಿಸಿದೆ.

1. ಉತ್ಪನ್ನ ಸಾಲುಗಳು
2. ಕ್ರಿಯಾತ್ಮಕ ಸಾಲುಗಳು
3. ಅನೌಪಚಾರಿಕ ಆಧಾರ
4. ಔದ್ಯೋಗಿಕ ವಿಶೇಷತೆ

Options :

485584145761. 1
485584145762. 2
485584145763. 3
485584145764. 4

Question Number : 57 Question Id : 48558436442 Question Type : MCQ Option Shuffling : No Is Question Mandatory : No Calculator : None Response Time : N.A Think Time : N.A Minimum Instruction Time : 0

Correct Marks : 5 Wrong Marks : 1

Question Key Details :

Key	Value
Comprehension	MCQ

_____ can be delegated.

1. Responsibility
2. Authority
3. Accountability
4. Answerability

Options :

485584145765. 1
485584145766. 2
485584145767. 3
485584145768. 4

Question Number : 57 Question Id : 48558436442 Question Type : MCQ Option Shuffling : No Is Question Mandatory : No Calculator : None Response Time : N.A Think Time : N.A Minimum Instruction Time : 0

Correct Marks : 5 Wrong Marks : 1

Question Key Details :

Key	Value
Comprehension	MCQ

_____ ಅನ್ನು ಪ್ರತಿ ನಿಯೋಜಿಸಲಾಗುವುದು.

1. ಕೊಡೆಗಾರಿಕೆ
2. ಅಧಿಕಾರ
3. ಕೊಡೆಗಾರಿಕೆ
4. ಉತ್ತರದಾಯಿತ್ವ

Options :

485584145765. 1
485584145766. 2
485584145767. 3
485584145768. 4

Question Number : 58 Question Id : 48558436443 Question Type : MCQ Option Shuffling : No Is Question Mandatory : No Calculator : None Response Time : N.A Think Time : N.A Minimum Instruction Time : 0

Correct Marks : 5 Wrong Marks : 1

Question Key Details :

Key	Value
Comprehension	MCQ

_____ Test is a measure of individuals potential for learning new skills.

1. Trade tests
2. Personality tests
3. Aptitude tests
4. Intelligence tests

Options :

485584145769. 1
485584145770. 2
485584145771. 3
485584145772. 4

Question Number : 58 Question Id : 48558436443 Question Type : MCQ Option Shuffling : No Is Question Mandatory : No Calculator : None Response Time : N.A Think Time : N.A Minimum Instruction Time : 0

Correct Marks : 5 Wrong Marks : 1

Question Key Details :

Key	Value
Comprehension	MCQ

ಹೊಸ ಕೌಶಲ್ಯಗಳನ್ನು ಕಲಿಯುವ ವ್ಯಕ್ತಿಯ ಸಾಮರ್ಥ್ಯದ ಅಳತೆಯಾಗಿದೆ.

1. ವೃತ್ತಿ ಪರೀಕ್ಷೆಗಳು
2. ವ್ಯಕ್ತಿತ್ವ ಪರೀಕ್ಷೆಗಳು
3. ಯೋಗ್ಯತಾ ಪರೀಕ್ಷೆಗಳು
4. ಬುದ್ಧಿವಂತಿಕೆಯ ಪರೀಕ್ಷೆಗಳು

Options :

485584145769. 1
485584145770. 2
485584145771. 3
485584145772. 4

Question Number : 59 Question Id : 48558436444 Question Type : MCQ Option Shuffling : No Is Question Mandatory : No Calculator : None Response Time : N.A Think Time : N.A Minimum Instruction Time : 0

Correct Marks : 5 Wrong Marks : 1

Question Key Details :

Key	Value
Comprehension	MCQ

"Many reputed organizations keep a database of unsolicited applications in their offices based on which a list of job-seekers can be prepared and can be screened to fill the vacancies as they arise". Identify the source referred of recruitment above.

1. Direct Recruitment
2. Campus Recruitment
3. Labour Contractors
4. Casual Callers

Options :

485584145773. 1
485584145774. 2
485584145775. 3
485584145776. 4

Question Number : 59 Question Id : 48558436444 Question Type : MCQ Option Shuffling : No Is Question Mandatory : No Calculator : None Response Time : N.A Think Time : N.A Minimum Instruction Time : 0

Correct Marks : 5 Wrong Marks : 1

Question Key Details :

Key	Value
Comprehension	MCQ

ಅನೇಕ ಪ್ರಸಿದ್ಧ ವ್ಯವಹಾರ ಸಂಘಟನೆಗಳು ತಮ್ಮ ಕಚೇರಿಗಳಲ್ಲಿ ಅಪೇಕ್ಷಿತವಲ್ಲದ ಅರ್ಜಿದಾರನ ಮಾಹಿತಿ ಸಂಗ್ರಹವನ್ನು ಇರಿಸಿಕೊಂಡಿರುತ್ತದೆ. ಇಂತಹ ಉದ್ಯೋಗಿಗಳ ಪಟ್ಟಿಯನ್ನು ತಯಾರಿಸಿ ಉದ್ಯೋಗಗಳು ಉದ್ಭವಿಸಿದಂತೆ ಭರ್ತಿ ಮಾಡಲು ಪರಿಶೀಲಿಸಬಹುದು.

1. ನೇರ ನೇಮಕಾತಿ
2. ಅವರಣ ನೇಮಕಾತಿ
3. ಕಾರ್ಮಿಕ ಗುತ್ತಿಗೆದಾರರು
4. ನೇರ ಸ್ವೀಕೃತ ಅರ್ಜಿಗಳು

Options :

485584145773. 1
485584145774. 2
485584145775. 3
485584145776. 4

Question Number : 60 Question Id : 48558436445 Question Type : MCQ Option Shuffling : No Is Question Mandatory : No Calculator : None Response Time : N.A Think Time : N.A Minimum Instruction Time : 0

Correct Marks : 5 Wrong Marks : 1

Question Key Details :

Key	Value
Comprehension	MCQ

It involves shifting of an employee from one job to another, one department to another or from one shift to another, without a substantive change in the responsibilities and status of an employee. It is known as _____.

1. Training
2. Transfer
3. Promotion
4. Development

Options :

485584145777. 1
485584145778. 2
485584145779. 3
485584145780. 4

Question Number : 60 Question Id : 48558436445 Question Type : MCQ Option Shuffling : No Is Question Mandatory : No Calculator : None Response Time : N.A Think Time : N.A Minimum Instruction Time : 0

Correct Marks : 5 Wrong Marks : 1

Question Key Details :

Key	Value
Comprehension	MCQ

ಇದು ಉದ್ಯೋಗಿಯ ಜವಾಬ್ದಾರಿ ಮತ್ತು ದರ್ಜೆಯಲ್ಲಿ ಮಹತ್ವದ ಬದಲಾವಣೆಯಿಲ್ಲದೆಯೇ ಒಂದು ಕೆಲಸದಿಂದ ಇನ್ನೊಂದಕ್ಕೆ ಅಥವಾ ಒಂದು ದಾಳಿಯಿಂದ ಇನ್ನೊಂದಕ್ಕೆ ಅಥವಾ ಒಂದು ಇಲಾಖೆಯಿಂದ ಇನ್ನೊಂದಕ್ಕೆ ಸ್ಥಾನಪಲ್ಲಟಗೊಳಿಸುವುದಾಗಿದೆ.

1. ತರಬೇತಿ
2. ವರ್ಗಾವಣೆ
3. ಬಡ್ಡಿ
4. ಅಭಿವೃದ್ಧಿ

Options :

485584145777. 1
485584145778. 2
485584145779. 3
485584145780. 4

Question Number : 61 Question Id : 48558436446 Question Type : MCQ Option Shuffling : No Is Question Mandatory : No Calculator : None Response Time : N.A Think Time : N.A Minimum Instruction Time : 0

Correct Marks : 5 Wrong Marks : 1

Question Key Details :

Key	Value
Comprehension	MCQ

Organizational barriers to communication do not include :

1. Rules and regulations
2. Status
3. Organizational Policy
4. Lack of attention

Options :

485584145781. 1
485584145782. 2
485584145783. 3
485584145784. 4

Question Number : 61 Question Id : 48558436446 Question Type : MCQ Option Shuffling : No Is Question Mandatory : No Calculator : None Response Time : N.A Think Time : N.A Minimum Instruction Time : 0

Correct Marks : 5 Wrong Marks : 1

Question Key Details :

Key	Value
Comprehension	MCQ

ಸಂವಹನಕ್ಕೆ ಸಂಬಂಧಿಸಿದ ಸಂಘಟನಾತ್ಮಕ ಅಡಚಣೆಗಳಲ್ಲಿ ಕೆಳಗಿನ ಯಾವ ಅಂಶ ಸೇರುವುದಿಲ್ಲ?

1. ನಿಯಮ ಮತ್ತು ನಿಬಂಧನೆಗಳು
2. ಅಂತಸ್ತು
3. ಸಂಘಟನಾತ್ಮಕ ನೀತಿ
4. ಗಮನದ ಕೊರತೆ

Options :

485584145781. 1
485584145782. 2
485584145783. 3
485584145784. 4

Question Number : 62 Question Id : 48558436447 Question Type : MCQ Option Shuffling : No Is Question Mandatory : No Calculator : None Response Time : N.A Think Time : N.A Minimum Instruction Time : 0

Correct Marks : 5 Wrong Marks : 1

Question Key Details :

Key	Value
Comprehension	MCQ

_____ means giving more autonomy and power to subordinates. This feeling contributes positively to the use of skills and talents in the job performance.

1. Employee Recognition Programme
2. Employee Empowerment
3. Status
4. Job Security

Options :

485584145785. 1
485584145786. 2
485584145787. 3
485584145788. 4

Question Number : 62 Question Id : 48558436447 Question Type : MCQ Option Shuffling : No Is Question Mandatory : No Calculator : None Response Time : N.A Think Time : N.A Minimum Instruction Time : 0

Correct Marks : 5 Wrong Marks : 1

Question Key Details :

Key	Value
Comprehension	MCQ

_____ ಎಂದರೆ ಅಧೀನರಿಗೆ ಹೆಚ್ಚಿನ ಸ್ವಾಯತ್ತತೆ ಮತ್ತು ಅಧಿಕಾರಗಳನ್ನು ನೀಡುವುದಾಗಿದೆ. ಈ ಭಾವನೆಯು ಕಾರ್ಯನಿರ್ವಹಣೆಯಲ್ಲಿ ಹೆಚ್ಚಿನ ಕೌಶಲ್ಯ ಹಾಗೂ ಪ್ರತಿಭೆಯನ್ನು ಬಳಸಲು ಧನಾತ್ಮಕ ಪ್ರಭಾವ ಬೀರುತ್ತದೆ.

1. ಉದ್ಯೋಗ ಗುರುತಿಸುವಿಕೆ ಕಾರ್ಯಕ್ರಮಗಳು
2. ಉದ್ಯೋಗಿ ಸಬಲೀಕರಣ
3. ಅಂತಸ್ತು
4. ಉದ್ಯೋಗ ಭದ್ರತೆ

Options :

485584145785. 1
485584145786. 2
485584145787. 3
485584145788. 4

Question Number : 63 Question Id : 48558436448 Question Type : MCQ Option Shuffling : No Is Question Mandatory : No Calculator : None Response Time : N.A Think Time : N.A Minimum Instruction Time : 0

Correct Marks : 5 Wrong Marks : 1

Question Key Details :

Key	Value
Comprehension	MCQ

Which type of leader does not believe in the use of power unless it is absolutely essential ?

1. Free-rein / Laissez faire leader
2. Democratic leader
3. Autocratic leader
4. Participative leader

Options :

485584145789. 1
485584145790. 2
485584145791. 3
485584145792. 4

Question Number : 63 Question Id : 48558436448 Question Type : MCQ Option Shuffling : No Is Question Mandatory : No Calculator : None Response Time : N.A Think Time : N.A Minimum Instruction Time : 0

Correct Marks : 5 Wrong Marks : 1

Question Key Details :

Key	Value
Comprehension	MCQ

ಯಾವ ರೀತಿಯ ನಾಯಕನು ಅತಿ ಅನಿವಾರ್ಯವಾಗದ ಹೊರತು ಅಧಿಕಾರದ ಬಳಕೆಯನ್ನು ನಂಬುವುದಿಲ್ಲ?

1. ನಿಯಂತ್ರಣ-ಮುಕ್ತವಾದಿ ನಾಯಕ
2. ಪ್ರಜಾಪ್ರಭುತ್ವವಾದಿ
3. ಸರ್ವಾಧಿಕಾರಿ
4. ಭಾಗವಹಿಸುವ

Options :

485584145789. 1
485584145790. 2
485584145791. 3
485584145792. 4

Question Number : 64 Question Id : 48558436449 Question Type : MCQ Option Shuffling : No Is Question Mandatory : No Calculator : None Response Time : N.A Think Time : N.A Minimum Instruction Time : 0

Correct Marks : 5 Wrong Marks : 1

Question Key Details :

Key	Value
Comprehension	MCQ

The incentive is offered over and above the wages/salary to the employees is _____.

1. Project Sharing
2. Pay or Allowances
3. Perquisites
4. Bonus

Options :

485584145793. 1
485584145794. 2
485584145795. 3
485584145796. 4

Question Number : 64 Question Id : 48558436449 Question Type : MCQ Option Shuffling : No Is Question Mandatory : No Calculator : None Response Time : N.A Think Time : N.A Minimum Instruction Time : 0

Correct Marks : 5 Wrong Marks : 1

Question Key Details :

Key	Value
Comprehension	MCQ

ನೌಕರರಿಗೆ ವೇತನ/ಸಂಬಳಕ್ಕಿಂತ ಹೆಚ್ಚುವರಿಯಾಗಿ ನೀಡಲಾಗುವ ಉತ್ತೇಜಕ _____.

1. ಯೋಜನೆಯ ಹಂಚಿಕೆ
2. ವೇತನ ಮತ್ತು ಭತ್ಯೆಗಳು
3. ಭಕ್ಷಿಸುಗಳು
4. ಬೋನಸ್

Options :

485584145793. 1
485584145794. 2
485584145795. 3
485584145796. 4

Question Number : 65 Question Id : 48558436450 Question Type : MCQ Option Shuffling : No Is Question Mandatory : No Calculator : None Response Time : N.A Think Time : N.A Minimum Instruction Time : 0

Correct Marks : 5 Wrong Marks : 1

Question Key Details :

Key	Value
Comprehension	MCQ

Ashok went to a shop to buy a tooth paste. The shopkeeper showed him different varieties of toothpaste available in his shop. Ashok took one of them but had an allergy after using it. He later on checked that the product had crossed its expiry date. Which responsibility has Ashok ignored as a customer?

1. Read labels carefully for information such as net weight, price, expiry date etc.
2. Assert that you get a fair deal
3. Ask for a cash memo
4. Avoid waste, littering and contributing to pollution.

Options :

485584145797. 1
485584145798. 2
485584145799. 3
485584145800. 4

Question Number : 65 Question Id : 48558436450 Question Type : MCQ Option Shuffling : No Is Question Mandatory : No Calculator : None Response Time : N.A Think Time : N.A Minimum Instruction Time : 0

Correct Marks : 5 Wrong Marks : 1

Question Key Details :

Key	Value
Comprehension	MCQ

ಅಶೋಕ ಟೋಪ್ ಪೇಸ್ಟ್ ಖರೀದಿಸಲು ಅಂಗಡಿಯೊಂದಕ್ಕೆ ಹೋದನು. ಅಂಗಡಿಯವನು ಅದನ್ನು ಬಳಸಿದ ನಂತರ ಅವನಿಗೆ ವಿಭಿನ್ನ ಅಲರ್ಜಿಯನ್ನು ತೋರಿಸಿದನು. ಉತ್ಪನ್ನವು ಅದರ ಮುಕ್ತಾಯ ದಿನಾಂಕವನ್ನು ದಾಟಿದೆ ಎಂದು ಅವರು ನಂತರ ಪರಿಶೀಲಿಸಿದರು. ಅಶೋಕ ಅವರು ಗ್ರಾಹಕರಾಗಿ ಯಾವ ಜವಾಬ್ದಾರಿಯನ್ನು ನಿರ್ಲಕ್ಷಿಸಿದ್ದಾರೆ?

1. ನಿವ್ವಳ ತೂಕ, ಬೆಲೆ, ಮುಕ್ತಾಯ ದಿನಾಂಕ ಇತ್ಯಾದಿ ಮಾಹಿತಿಗಾಗಿ ಲೇಬಲ್‌ಗಳನ್ನು ಎಚ್ಚರಿಕೆಯಿಂದ ಓದಿ.
2. ನೀವು ನ್ಯಾಯಯುತ ಒಪ್ಪಂದವನ್ನು ಪಡೆಯುತ್ತೀರಿ ಎಂದು ಪ್ರತಿಪಾದಿಸಿ
3. ನಗದು ಜ್ಞಾಪಕವನ್ನು ಕೇಳಿ
4. ತ್ಯಾಜ್ಯ, ಕಸ ಹಾಕುವುದು ಮತ್ತು ಮಾಲಿನ್ಯಕ್ಕೆ ಕೂಡುಗೆ ನೀಡುವುದನ್ನು ತಪ್ಪಿಸಿ

Options :

485584145797. 1
 485584145798. 2
 485584145799. 3
 485584145800. 4

Question Number : 66 Question Id : 48558436451 Question Type : MCQ Option Shuffling : No Is Question Mandatory : No Calculator : None Response Time : N.A Think Time : N.A Minimum Instruction Time : 0

Correct Marks : 5 Wrong Marks : 1

Question Key Details :

Key	Value
Comprehension	MCQ

It is mandatory for the manufactures to provide information such as ingredients, date of manufacture, price, directions for use, price etc. The consumer right highlighted here is-

1. Right to safety
2. Right to be informed
3. Right to be heard
4. Right to Consumer Education

Options :

485584145801. 1
 485584145802. 2
 485584145803. 3
 485584145804. 4

Question Number : 66 Question Id : 48558436451 Question Type : MCQ Option Shuffling : No Is Question Mandatory : No Calculator : None Response Time : N.A Think Time : N.A Minimum Instruction Time : 0

Correct Marks : 5 Wrong Marks : 1

Question Key Details :

Key	Value
Comprehension	MCQ

ತಯಾರಕರು ಪದಾರ್ಥಗಳು, ತಯಾರಿಕೆಯ ದಿನಾಂಕ, ಬೆಲೆ, ಬಳಕೆಗೆ ನಿರ್ದೇಶನಗಳು, ಬೆಲೆ ಇತ್ಯಾದಿಗಳಂತಹ ಮಾಹಿತಿಯನ್ನು ಒದಗಿಸುವುದು ಕಡ್ಡಾಯವಾಗಿದೆ. ಇಲ್ಲಿ ಹೈಲೈಟ್ ಮಾಡಲಾದ ಗ್ರಾಹಕ ಹಕ್ಕು-

1. ಸುರಕ್ಷತೆಯ ಹಕ್ಕು
2. ತಿಳಿಸುವ ಹಕ್ಕು
3. ಕೇಳಲು ಹಕ್ಕು
4. ಗ್ರಾಹಕ ಶಿಕ್ಷಣದ ಹಕ್ಕು

Options :

485584145801. 1
485584145802. 2
485584145803. 3
485584145804. 4

Question Number : 67 Question Id : 48558436452 Question Type : MCQ Option Shuffling : No Is Question Mandatory : No Calculator : None Response Time : N.A Think Time : N.A Minimum Instruction Time : 0

Correct Marks : 5 Wrong Marks : 1

Question Key Details :

Key	Value
Comprehension	MCQ

Net working capital is computed as _____.

1. Gross current assets
2. Gross current assets - total debt
3. Current assets - External debt
4. Current assets - Current liabilities

Options :

485584145805. 1
485584145806. 2
485584145807. 3
485584145808. 4

Question Number : 67 Question Id : 48558436452 Question Type : MCQ Option Shuffling : No Is Question Mandatory : No Calculator : None Response Time : N.A Think Time : N.A Minimum Instruction Time : 0

Correct Marks : 5 Wrong Marks : 1

Question Key Details :

Key	Value
Comprehension	MCQ

ನಿವ್ವಳ ಕಾರ್ಯಶೀಲ ಬಂಡವಾಳವನ್ನು ಹೀಗೆ ಲೆಕ್ಕ ಹಾಕಲಾಗುತ್ತದೆ:

1. ಸ್ಥೂಲ ಚರಾಸ್ತಿಗಳು
2. ಸ್ಥೂಲ ಚರಾಸ್ತಿಗಳು - ಒಟ್ಟು ಸಾಲ
3. ಚರಾಸ್ತಿಗಳು - ಬಾಹ್ಯ ಸಾಲಗಳು
4. ಚರಾಸ್ತಿಗಳು - ಚಾಲ್ತಿ ಹೊಣೆಗಾರಿಕೆಗಳು

Options :

485584145805. 1
485584145806. 2
485584145807. 3
485584145808. 4

Question Number : 68 Question Id : 48558436453 Question Type : MCQ Option Shuffling : No Is Question Mandatory : No Calculator : None Response Time : N.A Think Time : N.A Minimum Instruction Time : 0

Correct Marks : 5 Wrong Marks : 1

Question Key Details :

Key	Value
Comprehension	MCQ

_____ of a company affects both the profitability and the financial risk.

1. Working Capital
2. Capital Structure
3. Fixed Capital
4. Dividend decision

Options :

485584145809. 1
485584145810. 2
485584145811. 3
485584145812. 4

Question Number : 68 Question Id : 48558436453 Question Type : MCQ Option Shuffling : No Is Question Mandatory : No Calculator : None Response Time : N.A Think Time : N.A Minimum Instruction Time : 0

Correct Marks : 5 Wrong Marks : 1

Question Key Details :

Key	Value
Comprehension	MCQ

_____ ಕಂಪನಿಯ ಲಾಭದಾಯಕತೆ ಮತ್ತು ಹಣಕಾಸಿನ ಅಪಾಯ ಎರಡರ ಮೇಲೂ ಪರಿಣಾಮ ಬೀರುತ್ತದೆ.

1. ಕಾರ್ಯಶೀಲ ಬಂಡವಾಳ
2. ಬಂಡವಾಳ ರಚನೆ
3. ಸ್ಥಿರ ಬಂಡವಾಳ
4. ಲಾಭಾಂಶ ನಿರ್ಧಾರ

Options :

485584145809. 1
485584145810. 2
485584145811. 3
485584145812. 4

Question Number : 69 Question Id : 48558436454 Question Type : MCQ Option Shuffling : No Is Question Mandatory : No Calculator : None Response Time : N.A Think Time : N.A Minimum Instruction Time : 0

Correct Marks : 5 Wrong Marks : 1

Question Key Details :

Key	Value
Comprehension	MCQ

Identify the decision in which a company has to choose where to invest its resources so that it is able to earn the maximum possible return for their investors.

1. Working capital decision
2. Financing decision
3. Dividend decision
4. Investment decision

Options :

485584145813. 1
485584145814. 2
485584145815. 3
485584145816. 4

Question Number : 69 Question Id : 48558436454 Question Type : MCQ Option Shuffling : No Is Question Mandatory : No Calculator : None Response Time : N.A Think Time : N.A Minimum Instruction Time : 0

Correct Marks : 5 Wrong Marks : 1

Question Key Details :

Key	Value
Comprehension	MCQ

ಕಂಪನಿಯು ತನ್ನ ಸಂಪನ್ಮೂಲಗಳನ್ನು ಎಲ್ಲಿ ಹೂಡಿಕೆ ಮಾಡಬೇಕೆಂದು ಆಯ್ಕೆ ಮಾಡಬೇಕಾದ ನಿರ್ಧಾರವನ್ನು ಗುರುತಿಸಿ ಇದರಿಂದ ಅದು ತಮ್ಮ ಹೂಡಿಕೆದಾರರಿಗೆ ಗರಿಷ್ಠ ಲಾಭವನ್ನು ಗಳಿಸಲು ಸಾಧ್ಯವಾಗುತ್ತದೆ.

1. ವರ್ಕಿಂಗ್ ಕ್ಯಾಪಿಟಲ್ ನಿರ್ಧಾರ
2. ಹಣಕಾಸು ನಿರ್ಧಾರ
3. ಡಿವಿಡೆಂಡ್ ನಿರ್ಧಾರ
4. ಹೂಡಿಕೆ ನಿರ್ಧಾರ

Options :

485584145813. 1
485584145814. 2
485584145815. 3
485584145816. 4

Question Number : 70 Question Id : 48558436455 Question Type : MCQ Option Shuffling : No Is Question Mandatory : No Calculator : None Response Time : N.A Think Time : N.A Minimum Instruction Time : 0

Correct Marks : 5 Wrong Marks : 1

Question Key Details :

Key	Value
Comprehension	MCQ

Select the term that indicates Principles of Management are not rigid prescriptions.

1. Human behaviour
2. Mainly behaviour
3. Contingent
4. Flexible

Options :

485584145817. 1
485584145818. 2
485584145819. 3
485584145820. 4

Question Number : 70 Question Id : 48558436455 Question Type : MCQ Option Shuffling : No Is Question Mandatory : No Calculator : None Response Time : N.A Think Time : N.A Minimum Instruction Time : 0

Correct Marks : 5 Wrong Marks : 1

Question Key Details :

Key	Value
Comprehension	MCQ

ನಿರ್ವಹಣೆಯ ತತ್ವಗಳು ಕಟ್ಟುನಿಟ್ಟಾದ ಪ್ರೀತ್ಯುಷ್ಕನಾಗಳಲ್ಲ, ಎಂದು ಸೂಚಿಸುವ ಪದವನ್ನು ಆಯ್ಕೆಮಾಡಿ.

1. ಮಾನವ ನಡವಳಿಕೆ
2. ಮುಖ್ಯವಾದ ನಡವಳಿಕೆ
3. ಅನಿತ್ಯತೆ
4. ಸುಲಭ ಹೊಂದಾಣಿಕೆ

Options :

485584145817. 1
485584145818. 2
485584145819. 3
485584145820. 4

Question Number : 71 Question Id : 48558436456 Question Type : MCQ Option Shuffling : No Is Question Mandatory : No Calculator : None Response Time : N.A Think Time : N.A Minimum Instruction Time : 0

Correct Marks : 5 Wrong Marks : 1

Question Key Details :

Key	Value
Comprehension	MCQ

" People and materials must be in suitable places at appropriate time for maximum efficiency."

Application of this principle will lead to:

1. Hindrance in the activities of business/factory
2. Increased productivity and efficiency
3. No discrimination against anyone
4. Justice and kindness in the behaviour of managers.

Options :

485584145821. 1
485584145822. 2
485584145823. 3
485584145824. 4

Question Number : 71 Question Id : 48558436456 Question Type : MCQ Option Shuffling : No Is Question Mandatory : No Calculator : None Response Time : N.A Think Time : N.A Minimum Instruction Time : 0

Correct Marks : 5 Wrong Marks : 1

Question Key Details :

Key	Value
Comprehension	MCQ

"ಗರಿಷ್ಠ ದಕ್ಷತೆಗಾಗಿ ಜನರು ಮತ್ತು ವಸ್ತುಗಳು ಸೂಕ್ತ ಸಮಯದಲ್ಲಿ ಸೂಕ್ತ ಸ್ಥಳಗಳಲ್ಲಿರಬೇಕು."
ಈ ತತ್ವದ ಅನ್ವಯವು ಇದಕ್ಕೆ ಕಾರಣವಾಗುತ್ತದೆ:

1. ವ್ಯಾಪಾರ/ಕಾರ್ಖಾನೆಯ ಚಟುವಟಿಕೆಗಳಲ್ಲಿ ಅಡಚಣೆ
2. ಹೆಚ್ಚಿದ ಉತ್ಪಾದಕತೆ ಮತ್ತು ದಕ್ಷತೆ
3. ಯಾರ ವಿರುದ್ಧವೂ ಯಾವುದೇ ತಾರತಮ್ಯವಿಲ್ಲ
4. ವ್ಯವಸ್ಥಾಪಕರ ನಡವಳಿಕೆಯಲ್ಲಿ ನ್ಯಾಯ ಮತ್ತು ದಯೆ.

Options :

485584145821. 1
485584145822. 2
485584145823. 3
485584145824. 4

**Question Number : 72 Question Id : 48558436457 Question Type : MCQ Option Shuffling : No Is Question Mandatory :
No Calculator : None Response Time : N.A Think Time : N.A Minimum Instruction Time : 0**

Correct Marks : 5 Wrong Marks : 1

Question Key Details :

Key	Value
Comprehension	MCQ

In the principle of Scalar Chain, the shortest route for communication in case of emergency is called:

1. Gang Plank
2. Special route
3. Formal route
4. Protocol

Options :

485584145825. 1
485584145826. 2
485584145827. 3
485584145828. 4

**Question Number : 72 Question Id : 48558436457 Question Type : MCQ Option Shuffling : No Is Question Mandatory :
No Calculator : None Response Time : N.A Think Time : N.A Minimum Instruction Time : 0**

Correct Marks : 5 Wrong Marks : 1

Question Key Details :

Key	Value
Comprehension	MCQ

ಸ್ವೀಲಾರ್ ಜೈನ್ ತತ್ವದಲ್ಲಿ, ತುರ್ತು ಸಂದರ್ಭದಲ್ಲಿ ಸಂವಹನಕ್ಕಾಗಿ ಕಡಿಮೆ ಮಾರ್ಗವನ್ನು ಕರೆಯಲಾಗುತ್ತದೆ:

1. ಗ್ಯಾಂಗ್ ಪ್ಲಾಂಕ್
2. ವಿಶೇಷ ಮಾರ್ಗ
3. ಔಪಚಾರಿಕ ಮಾರ್ಗ
4. ಪ್ರೋಟೋಕಾಲ್

Options :

485584145825. 1
485584145826. 2
485584145827. 3
485584145828. 4

Question Number : 73 Question Id : 48558436458 Question Type : MCQ Option Shuffling : No Is Question Mandatory : No Calculator : None Response Time : N.A Think Time : N.A Minimum Instruction Time : 0

Correct Marks : 5 Wrong Marks : 1

Question Key Details :

Key	Value
Comprehension	MCQ

If any party is not satisfied by the order of District Commission, then appeal against such order can be made to state commission within a period of _____ days from the date of order.

1. Forty five
2. Thirty
3. Sixty
4. Forty

Options :

485584145829. 1
485584145830. 2
485584145831. 3
485584145832. 4

Question Number : 73 Question Id : 48558436458 Question Type : MCQ Option Shuffling : No Is Question Mandatory : No Calculator : None Response Time : N.A Think Time : N.A Minimum Instruction Time : 0

Correct Marks : 5 Wrong Marks : 1

Question Key Details :

Key	Value
Comprehension	MCQ

ಜಿಲ್ಲಾ ವೇದಿಕೆಯು ನೀಡಿದ ಆದೇಶವು ಅನ್ಯಾಯಕ್ಕೊಳಗಾದ ಕಕ್ಷಿದಾರನಿಗೆ ತೃಪ್ತಿಕರವಾಗಿದ್ದು, ಆದೇಶವನ್ನು ನೀಡಿದ _____ ದಿನದೊಳಗಾಗಿ ರಾಜ್ಯ ಆಯೋಗಕ್ಕೆ ಮೇಲ್ಮನವಿಯನ್ನು ಸಲ್ಲಿಸಬಹುದು.

1. ನಲವತ್ತೈದು
2. ಮೂವತ್ತು
3. ಅರವತ್ತು
4. ನಲವತ್ತು

Options :

485584145829. 1
485584145830. 2
485584145831. 3
485584145832. 4

Question Number : 74 Question Id : 48558436459 Question Type : MCQ Option Shuffling : No Is Question Mandatory : No Calculator : None Response Time : N.A Think Time : N.A Minimum Instruction Time : 0

Correct Marks : 5 Wrong Marks : 1

Question Key Details :

Key	Value
Comprehension	MCQ

Functions of Entrepreneurship in relation to economic Development do not include :-

1. Contribution to GDP
2. Capital Formation
3. Generation of Employment
4. Generation of Business opportunities only for same business

Options :

485584145833. 1
485584145834. 2
485584145835. 3
485584145836. 4

Question Number : 74 Question Id : 48558436459 Question Type : MCQ Option Shuffling : No Is Question Mandatory : No Calculator : None Response Time : N.A Think Time : N.A Minimum Instruction Time : 0

Correct Marks : 5 Wrong Marks : 1

Question Key Details :

Key	Value
Comprehension	MCQ

ಆರ್ಥಿಕ ಬೆಳವಣಿಗೆಗೆ ಸಂಬಂಧಿಸಿದಂತೆ ಉದ್ಯಮ ಸಾಹಸಿಗಳ ಕಾರ್ಯಗಳ ಪಟ್ಟಿಗೆ ಇದು ಸೇರುವುದಿಲ್ಲ:

1. ಒಟ್ಟು ದೇಶೀಯ ಉತ್ಪನ್ನಕ್ಕೆ ಕೊಡುಗೆ
2. ಬಂಡವಾಳ ನಿರ್ಮಾಣ
3. ಉದ್ಯೋಗದ ಸೃಷ್ಟಿ
4. ಅದೇ ವ್ಯವಹಾರಕ್ಕೆ ವ್ಯಾಪಾರದ ಅವಕಾಶಗಳ ಸೃಷ್ಟಿ

Options :

485584145833. 1
485584145834. 2
485584145835. 3
485584145836. 4

Question Number : 75 Question Id : 48558436460 Question Type : MCQ Option Shuffling : No Is Question Mandatory : No Calculator : None Response Time : N.A Think Time : N.A Minimum Instruction Time : 0

Correct Marks : 5 Wrong Marks : 1

Question Key Details :

Key	Value
Comprehension	MCQ

The person who combines all factors of production, who takes risk to earn profit is called entrepreneur.
Entrepreneur is _____.

1. Subject
2. Verb
3. Outcome
4. Process

Options :

485584145837. 1
485584145838. 2
485584145839. 3
485584145840. 4

Question Number : 75 Question Id : 48558436460 Question Type : MCQ Option Shuffling : No Is Question Mandatory : No Calculator : None Response Time : N.A Think Time : N.A Minimum Instruction Time : 0

Correct Marks : 5 Wrong Marks : 1

Question Key Details :

Key	Value
Comprehension	MCQ

ಉತ್ಪಾದನೆಯ ಎಲ್ಲಾ ಅಂಶಗಳನ್ನು ಸಂಯೋಜಿಸುವ, ಲಾಭ ಗಳಿಸಲು ಅಪಾಯವನ್ನು ತೆಗೆದುಕೊಳ್ಳುವ ವ್ಯಕ್ತಿಯನ್ನು ಉದ್ಯಮಿ ಎಂದು ಕರೆಯಲಾಗುತ್ತದೆ. ವಾಣಿಜ್ಯೋದ್ಯಮಿ ಎಂಬುದು _____.

1. ವಿಷಯ
2. ಕ್ರಿಯಾಪದ
3. ಫಲಿತಾಂಶ
4. ಪ್ರಕ್ರಿಯೆ

Options :

485584145837. 1
485584145838. 2
485584145839. 3
485584145840. 4

Question Number : 76 Question Id : 48558436461 Question Type : MCQ Option Shuffling : No Is Question Mandatory : No Calculator : None Response Time : N.A Think Time : N.A Minimum Instruction Time : 0

Correct Marks : 5 Wrong Marks : 1

Question Key Details :

Key	Value
Comprehension	MCQ

Zicon Ltd. has recently set a target of becoming market leader in sale of smart TV. Arrange the steps in the process of planning which will follow after setting of targets :

- A. Identifying alternative courses of action
- B. Implementing the plan
- C. Evaluating alternative courses
- D. Selecting an alternative
- E. Developing premises

Choose the correct answer from the options given below :

1. E, A, C, D, B
2. E, C, D, B, A
3. B, C, E, A, D
4. E, A, B, D, C

Options :

485584145841. 1
485584145842. 2
485584145843. 3
485584145844. 4

Question Number : 76 Question Id : 48558436461 Question Type : MCQ Option Shuffling : No Is Question Mandatory : No Calculator : None Response Time : N.A Think Time : N.A Minimum Instruction Time : 0

Correct Marks : 5 Wrong Marks : 1

Question Key Details :

Key	Value
Comprehension	MCQ

ಜಿಕೋನ್ ಲಿಮಿಟೆಡ್ ಇತ್ತೀಚೆಗೆ ಸ್ಟಾರ್ಟ್ ಟಿವಿ ಮಾರಾಟದಲ್ಲಿ ಮಾರುಕಟ್ಟೆ ನಾಯಕನಾಗುವ ಗುರಿಯನ್ನು ಹೊಂದಿದೆ. ಉದ್ಯೋಗಗಳನ್ನು ಸ್ಥಾಪಿಸುವ ನಂತರದಲ್ಲಿ ಅನುಸರಿಸುವ ಯೋಜನೆ ಪ್ರಕ್ರಿಯೆಯ ಹಂತಗಳನ್ನು ಅನುಕ್ರಮದಲ್ಲಿ ಜೋಡಿಸಿ.

- A. ಪರ್ಯಾಯ ಕಾರ್ಯಮಾರ್ಗಗಳನ್ನು ಗುರುತಿಸುವುದು
- B. ಯೋಜನೆಯನ್ನು ಜಾರಿಗೊಳಿಸುವುದು
- C. ಪರ್ಯಾಯ ಮಾರ್ಗಮಾರ್ಗಗಳನ್ನು ಮೌಲ್ಯೀಕರಿಸುವುದು
- D. ಪರ್ಯಾಯ ಕಾರ್ಯ ಮಾರ್ಗಗಳನ್ನು ಆಯ್ಕೆ ಮಾಡಿಕೊಳ್ಳುವುದು
- E. ಪರಿಮಿತಿ ಅಥವಾ ಉದ್ದೇಶಗಳನ್ನು ಅಭಿವ್ಯಕ್ತಪಡಿಸುವುದು

ಈ ಕೆಳಗಿನ ಆಯ್ಕೆಗಳಿಂದ ಸರಿಯಾದ ಉತ್ತರವನ್ನು ಆರಿಸಿ:

- 1. E, A, C, D, B
- 2. E, C, D, B, A
- 3. B, C, E, A, D
- 4. E, A, B, D, C

Options :

- 485584145841. 1
- 485584145842. 2
- 485584145843. 3
- 485584145844. 4

Question Number : 77 Question Id : 48558436462 Question Type : MCQ Option Shuffling : No Is Question Mandatory : No Calculator : None Response Time : N.A Think Time : N.A Minimum Instruction Time : 0

Correct Marks : 5 Wrong Marks : 1

Question Key Details :

Key	Value
Comprehension	MCQ

Arrange the correct sequence of steps in Organizing process.

- A. Identification and division of work
- B. Establishing authority and reporting relationships
- C. Assignment of Duties
- D. Departmentalization

Choose the correct answer from the options given below :

- 1. B, C, A, D
- 2. D, A, B, C
- 3. C, B, D, A
- 4. A, D, C, B

Options :

485584145845. 1
485584145846. 2
485584145847. 3
485584145848. 4

Question Number : 77 Question Id : 48558436462 Question Type : MCQ Option Shuffling : No Is Question Mandatory : No Calculator : None Response Time : N.A Think Time : N.A Minimum Instruction Time : 0

Correct Marks : 5 Wrong Marks : 1

Question Key Details :

Key	Value
Comprehension	MCQ

ಸಂಘಟಿಸುವಿಕೆ ಪ್ರಕ್ರಿಯೆಯ ಹಂತಗಳನ್ನು ಸರಿಯಾದ ಅನುಕ್ರಮದಲ್ಲಿ ಜೋಡಿಸಿ.

- A. ಕೆಲಸದ ಗುರುತಿಸುವಿಕೆ ಮತ್ತು ವಿಭಜನೆ
- B. ವರದಿ ಮಾಡುವ ಸಂಬಂಧಗಳನ್ನು ಸ್ಥಾಪಿಸುವುದು
- C. ಕರ್ತವ್ಯಗಳ ನಿಯೋಜನೆ
- D. ವಿಭಾಗೀಕರಣ

ಈ ಕೆಳಗಿನ ಆಯ್ಕೆಗಳಿಂದ ಸರಿಯಾದ ಉತ್ತರವನ್ನು ಆರಿಸಿ:

- 1. B, C, A, D
- 2. D, A, B, C
- 3. C, B, D, A
- 4. A, D, C, B

Options :

485584145845. 1
485584145846. 2
485584145847. 3
485584145848. 4

Question Number : 78 Question Id : 48558436463 Question Type : MCQ Option Shuffling : No Is Question Mandatory : No Calculator : None Response Time : N.A Think Time : N.A Minimum Instruction Time : 0

Correct Marks : 5 Wrong Marks : 1

Question Key Details :

Key	Value
Comprehension	MCQ

Mr. Prateek, the Production Manager of Zim Ltd. has selected the right workforce for his department. He decides the following steps which he would adopt in the process of staffing. Arrange them in correct sequence

- A. Performance Appraisal
- B. Compensation
- C. Placement and Orientation
- D. Promotion and Career Planning
- E. Training and development

Choose the correct answer from the options given below :

- 1. C, A, E, D, B
- 2. B, C, D, A, E
- 3. D, A, B, E, C
- 4. C, E, A, D, B

Options :

- 485584145849. 1
- 485584145850. 2
- 485584145851. 3
- 485584145852. 4

Question Number : 78 Question Id : 48558436463 Question Type : MCQ Option Shuffling : No Is Question Mandatory : No Calculator : None Response Time : N.A Think Time : N.A Minimum Instruction Time : 0

Correct Marks : 5 Wrong Marks : 1

Question Key Details :

Key	Value
Comprehension	MCQ

ಶ್ರೀ ಪ್ರತೀಕ್ ನಿರ್ಮಾಣ ವ್ಯವಸ್ಥಾಪಕರು. ಜಿಮ್ ಲಿಮಿಟೆಡ್. ಇವರು ತಮ್ಮ ಇಲಾಖೆಗೆ ಸೂಕ್ತ ಉದ್ಯೋಗಿಗಳನ್ನು ಆಯ್ಕೆ ಮಾಡಿದ್ದಾರೆ. ಸಿಬ್ಬಂದಿ ನಿರ್ವಹಣಾ ಪ್ರಕ್ರಿಯೆಯಲ್ಲಿ ಅವರು ಕೆಳಗಿನ ಹಂತಗಳನ್ನು ನಿರ್ಧರಿಸಿದ್ದಾರೆ. ಅವುಗಳನ್ನು ಸರಿಯಾದ ಅನುಕ್ರಮದಲ್ಲಿ ಜೋಡಿಸಿ.

- A. ಕಾರ್ಯನಿರ್ವಹಣೆಯ ಪರಾಮರ್ಶನ
- B. ಪರಿಹಾರ
- C. ಅನುಸ್ಥಾಪನೆ ಹಾಗೂ ಅಭಿಶಿಕ್ಷಣ
- D. ಬಡ್ಡಿ ಮತ್ತು ವ್ಯಕ್ತಿ ಜೀವನ ಯೋಜಿಸುವಿಕೆ
- E. ತರಬೇತಿ ಮತ್ತು ಅಭಿವೃದ್ಧಿ

ಈ ಕೆಳಗಿನ ಆಯ್ಕೆಗಳಿಂದ ಸರಿಯಾದ ಉತ್ತರವನ್ನು ಆರಿಸಿ:

- 1. C, A, E, D, B
- 2. B, C, D, A, E
- 3. D, A, B, E, C
- 4. C, E, A, D, B

Options :

485584145849. 1
485584145850. 2
485584145851. 3
485584145852. 4

Question Number : 79 Question Id : 48558436464 Question Type : MCQ Option Shuffling : No Is Question Mandatory : No Calculator : None Response Time : N.A Think Time : N.A Minimum Instruction Time : 0

Correct Marks : 5 Wrong Marks : 1

Question Key Details :

Key	Value
Comprehension	MCQ

Arrange the steps of trading procedure of stock exchange in the correct sequence

- A. Delivering the shares
- B. Placing an Order
- C. Opening a Demat Account
- D. Execution of the order
- E. Settlement of transaction

Choose the correct answer from the options given below :

- 1. C, A, B, D, E
- 2. C, B, D, A, E
- 3. B, A, D, C, E
- 4. B, C, A, E, D

Options :

485584145853. 1
485584145854. 2
485584145855. 3
485584145856. 4

Question Number : 79 Question Id : 48558436464 Question Type : MCQ Option Shuffling : No Is Question Mandatory : No Calculator : None Response Time : N.A Think Time : N.A Minimum Instruction Time : 0

Correct Marks : 5 Wrong Marks : 1

Question Key Details :

Key	Value
Comprehension	MCQ

ವ್ಯಾಪಾರ ಮತ್ತು ಷೇರು ವಿನಿಮಯದ ಪ್ರಕ್ರಿಯೆಯ ಹಂತಗಳನ್ನು ಸರಿಯಾದ ಅನುಕ್ರಮದಲ್ಲಿ ಜೋಡಿಸಿ.

- A. ಷೇರುಗಳನ್ನು ವಿತರಿಸುವುದು
- B. ಆದೇಶವನ್ನು ನೀಡುವುದು
- C. ಡಿಮ್ಯಾಟ್ ಖಾತೆಯನ್ನು ತೆರೆಯಬೇಕು
- D. ಆದೇಶದ ಅನುಷ್ಠಾನ
- E. ವ್ಯವಹಾರ ಇತ್ಯರ್ಥ

ಈ ಕೆಳಗಿನ ಆಯ್ಕೆಗಳಿಂದ ಸರಿಯಾದ ಉತ್ತರವನ್ನು ಆರಿಸಿ:

- 1. C, A, B, D, E
- 2. C, B, D, A, E
- 3. B, A, D, A, E
- 4. B, C, A, E, D

Options :

- 485584145853. 1
- 485584145854. 2
- 485584145855. 3
- 485584145856. 4

Question Number : 80 Question Id : 48558436465 Question Type : MCQ Option Shuffling : No Is Question Mandatory : No Calculator : None Response Time : N.A Think Time : N.A Minimum Instruction Time : 0

Correct Marks : 5 Wrong Marks : 1

Question Key Details :

Key	Value
Comprehension	MCQ

Arrange the following in proper sequence.

- A. Critical Point control and management by exception
- B. Performance should be measured in an objective and reliable manner
- C. Standards are set in both Quantitative as well as Qualitative terms
- D. Reveal the deviation between actual and desired results
- E. Taking corrective action

Choose the correct answer from the options given below :

- 1. A, B, C, D, E
- 2. E, D, C, B, A
- 3. C, B, D, A, E
- 4. A, C, B, E, D

Options :

- 485584145857. 1
- 485584145858. 2
- 485584145859. 3

485584145860. 4

Question Number : 80 Question Id : 48558436465 Question Type : MCQ Option Shuffling : No Is Question Mandatory : No Calculator : None Response Time : N.A Think Time : N.A Minimum Instruction Time : 0

Correct Marks : 5 Wrong Marks : 1

Question Key Details :

Key	Value
Comprehension	MCQ

ಕೆಳಗೆ ನೀಡಲಾದ ಹಂತಗಳನ್ನು ಸರಿಯಾದ ಅನುಕ್ರಮದಲ್ಲಿ ಜೋಡಿಸಿ.

- A. ನಿರ್ಣಾಯಕ ಹಂತದ ನಿಯಂತ್ರಣ ಮತ್ತು ಅಪವಾದಾತ್ಮಕ ನಿರ್ವಹಣೆ.
- B. ಕಾರ್ಯನಿರ್ವಹಣೆಯನ್ನು ವಸ್ತುನಿಷ್ಠ ಹಾಗೂ ವಿಶ್ವಾಸಾರ್ಹವಾದ ರೀತಿಯಲ್ಲಿ ಅಳೆಯಬೇಕು.
- C. ಶಿಷ್ಟಗಳನ್ನು ಪರಿಮಾಣಾತ್ಮಕವಾಗಿ ಮತ್ತು ಗುಣಾತ್ಮಕವಾಗಿ ಎರಡೂ ರೀತಿಯಲ್ಲಿ ನಿರ್ಧರಿಸುವುದು.
- D. ನೈಜ ಮತ್ತು ಅಪೇಕ್ಷಿತ ಫಲಿತಾಂಶಗಳ ನಡುವಿನ ವ್ಯತ್ಯಾಸವನ್ನು ಬಹಿರಂಗಪಡಿಸುವುದು.
- E. ಸರಿಪಡಿಸುವ ಕ್ರಮಗಳನ್ನು ತೆಗೆದುಕೊಳ್ಳುವುದು

ಈ ಕೆಳಗಿನ ಆಯ್ಕೆಗಳಿಂದ ಸರಿಯಾದ ಉತ್ತರವನ್ನು ಆರಿಸಿ:

- 1. A, B, C, D, E
- 2. E, D, C, B, A
- 3. C, B, D, A, E
- 4. A, C, B, E, D

Options :

- 485584145857. 1
- 485584145858. 2
- 485584145859. 3
- 485584145860. 4

Question Number : 81 Question Id : 48558436466 Question Type : MCQ Option Shuffling : No Is Question Mandatory : No Calculator : None Response Time : N.A Think Time : N.A Minimum Instruction Time : 0

Correct Marks : 5 Wrong Marks : 1

Question Key Details :

Key	Value
Comprehension	MCQ

Identify the correct combinations of Principles of Management.

- A. Division of work and motion study
- B. Equity and scalar chain
- C. Authority and Responsibility and Method Study
- D. Discipline and Order
- E. Initiative and Fatigue Study

Choose the correct answer from the options given below :

- 1. B and D Only
- 2. A and D Only
- 3. B and E Only
- 4. C and E Only

Options :

- 485584145861. 1
- 485584145862. 2
- 485584145863. 3
- 485584145864. 4

Question Number : 81 Question Id : 48558436466 Question Type : MCQ Option Shuffling : No Is Question Mandatory : No Calculator : None Response Time : N.A Think Time : N.A Minimum Instruction Time : 0

Correct Marks : 5 Wrong Marks : 1

Question Key Details :

Key	Value
Comprehension	MCQ

ನಿರ್ವಹಣೆಯ ಸರಿಯಾದ ಸಂಯೋಜನೆಯ ತತ್ವಗಳನ್ನು ಗುರುತಿಸಿ.

- A. ಶ್ರಮ ವಿಭಜನೆ ಮತ್ತು ಚಲನೆ ಅಧ್ಯಯನ.
- B. ಸಮತೆ ಮತ್ತು ಶ್ರೇಣೀಕೃತ ಸರಪಳಿ.
- C. ಅಧಿಕಾರ ಮತ್ತು ಹೊಣೆಗಾರಿಕೆ ಮತ್ತು ವಿಧಾನ ಅಧ್ಯಯನ.
- D. ಶಿಸ್ತು ಮತ್ತು ಕ್ರಮ
- E. ಮುಂತೂಡಗುವಿಕೆ ಮತ್ತು ಆಯಾಯ ಅಧ್ಯಯನ

ಈ ಕೆಳಗಿನ ಆಯ್ಕೆಗಳಿಂದ ಸರಿಯಾದ ಉತ್ತರವನ್ನು ಆರಿಸಿ:

- 1. B ಮತ್ತು D ಮಾತ್ರ
- 2. A ಮತ್ತು D ಮಾತ್ರ
- 3. B ಮತ್ತು E ಮಾತ್ರ
- 4. C ಮತ್ತು E ಮಾತ್ರ

Options :

- 485584145861. 1
- 485584145862. 2
- 485584145863. 3

Question Number : 82 Question Id : 48558436467 Question Type : MCQ Option Shuffling : No Is Question Mandatory : No Calculator : None Response Time : N.A Think Time : N.A Minimum Instruction Time : 0

Correct Marks : 5 Wrong Marks : 1

Question Key Details :

Key	Value
Comprehension	MCQ

Which of the following are the sources of Recruitment for a newly set organization?

- A. Unskilled workers required for unskilled work provided by labour contractor
- B. Promotion to the higher post
- C. Websites such as www.naukri.com & jobstostreet etc.
- D. Recommendations of employees
- E. Recruitment from educational institutions

Choose the correct answer from the options given below :

- 1. B Only
- 2. A, C and D Only
- 3. A, C & E Only
- 4. E Only

Options :

- 485584145865. 1
- 485584145866. 2
- 485584145867. 3
- 485584145868. 4

Question Number : 82 Question Id : 48558436467 Question Type : MCQ Option Shuffling : No Is Question Mandatory : No Calculator : None Response Time : N.A Think Time : N.A Minimum Instruction Time : 0

Correct Marks : 5 Wrong Marks : 1

Question Key Details :

Key	Value
Comprehension	MCQ

ಹೊಸದಾಗಿ ಸ್ಥಾಪಿಸಲಾದ ಸಂಸ್ಥೆಗೆ ಕೆಳಗಿನ ಯಾವ ನೇಮಕಾತಿ ಮೂಲಗಳು ಸರಿಹೊಂದುತ್ತವೆ?

- A. ಕೌಶಲ್ಯರಹಿತ ಕಾರ್ಮಿಕರನ್ನು ಕೌಶಲ್ಯರಹಿತ ಕೆಲಸಕ್ಕೆ ಒದಗಿಸುವ ಕಾರ್ಮಿಕ ಗುತ್ತಿಗೆದಾರರು
- B. ಉನ್ನತ ಹುದ್ದೆಗೆ ಬಡ್ಡಿ
- C. www.naukri.com ಮತ್ತು jobtostreet ಗಳಂತಹ ಜಾಲತಾಣಗಳು.
- D. ಉದ್ಯೋಗಿಗಳ ಶಿಪಾರಸು
- E. ಶೈಕ್ಷಣಿಕ ಸಂಸ್ಥೆಗಳಿಂದ ನೇಮಕಾತಿ

ಈ ಕೆಳಗಿನ ಆಯ್ಕೆಗಳಿಂದ ಸರಿಯಾದ ಉತ್ತರವನ್ನು ಆರಿಸಿ:

1. B ಮಾತ್ರ
2. A, C ಮತ್ತು D ಮಾತ್ರ
3. A, C, D ಮತ್ತು E ಮಾತ್ರ
4. E ಮಾತ್ರ

Options :

- 485584145865. 1
- 485584145866. 2
- 485584145867. 3
- 485584145868. 4

Question Number : 83 Question Id : 48558436468 Question Type : MCQ Option Shuffling : No Is Question Mandatory : No Calculator : None Response Time : N.A Think Time : N.A Minimum Instruction Time : 0

Correct Marks : 5 Wrong Marks : 1

Question Key Details :

Key	Value
Comprehension	MCQ

Which of the following statement/statements are not related with elements of Directing.

- A. Every manager in the organization supervise his/her subordinates
- B. It stimulates people to take up work voluntarily
- C. The process of influencing the behavior of people by making them strive voluntarily towards achievements of organizational goals
- D. Effective communication with subordinates
- E. Coordinating different functions of management

Choose the correct answer from the options given below :

1. E Only
2. A, B and D Only
3. D Only
4. B and C Only

Options :

- 485584145869. 1
- 485584145870. 2

485584145871. 3

485584145872. 4

Question Number : 83 Question Id : 48558436468 Question Type : MCQ Option Shuffling : No Is Question Mandatory : No Calculator : None Response Time : N.A Think Time : N.A Minimum Instruction Time : 0

Correct Marks : 5 Wrong Marks : 1

Question Key Details :

Key	Value
Comprehension	MCQ

ಕೆಳಗಿನ ಯಾವ ಹೇಳಿಕೆಗಳು ನಿರ್ದೇಶಿಸುವಿಕೆಯ ಮೂಲಾಂಶಗಳಿಗೆ ಸಂಬಂಧಿಸುವುದಿಲ್ಲ?

- A. ಸಂಸ್ಥೆಯ ಪ್ರತಿಯೊಬ್ಬ ವ್ಯವಸ್ಥಾಪಕನೂ ಅವನ/ಅವಳ ಅಧೀನ ಅಧಿಕಾರಿಗಳನ್ನು ಮೇಲ್ವಿಚಾರಣೆ ಮಾಡುತ್ತಾನೆ.
- B. ಇದು ಸ್ವಯಂಪ್ರೇರಿತವಾಗಿ ಕೆಲಸವನ್ನು ತೆಗೆದುಕೊಳ್ಳಲು ಉದ್ಯೋಗಿಗಳಿಗೆ ಉತ್ತೇಜಿಸುವುದಿಲ್ಲ.
- C. ಸಾಂಸ್ಥಿಕ ಗುರಿಗಳನ್ನು ಸಾಧಿಸಲು ಸ್ವಯಂಪ್ರೇರಣೆಯಿಂದ ಶ್ರಮಿಸುವಂತೆ ಮಾಡುವ ಮೂಲಕ ಜನರ ನಡವಳಿಕೆಯ ಮೇಲೆ ಪ್ರಭಾವ ಬೀರುವ ಪ್ರತಿಕ್ರಿಯೆ.
- D. ಅಧೀನ ಅಧಿಕಾರಿಗಳೊಂದಿಗೆ ಪರಿಣಾಮಕಾರಿ ಸಂವಹನ
- E. ನಿರ್ವಹಣೆಯ ವಿವಿಧ ಕಾರ್ಯಗಳನ್ನು ಸಂಯೋಗಿಸುವುದು.

ಈ ಕೆಳಗಿನ ಆಯ್ಕೆಗಳಿಂದ ಸರಿಯಾದ ಉತ್ತರವನ್ನು ಆರಿಸಿ:

1. E ಮಾತ್ರ

2. A, B ಮತ್ತು D ಮಾತ್ರ

3. D ಮಾತ್ರ

4. B ಮತ್ತು C ಮಾತ್ರ

Options :

485584145869. 1

485584145870. 2

485584145871. 3

485584145872. 4

Question Number : 84 Question Id : 48558436469 Question Type : MCQ Option Shuffling : No Is Question Mandatory : No Calculator : None Response Time : N.A Think Time : N.A Minimum Instruction Time : 0

Correct Marks : 5 Wrong Marks : 1

Question Key Details :

Key	Value
Comprehension	MCQ

Which of the following is not related with "Critical point of control" concept?

- A. Control should focus on key result areas
- B. KRA's can never be set as critical points
- C. It is very easy and economical to keep a check on each and every activity of organization
- D. If anything goes wrong at the critical points the entire organization suffers
- E. In manufacturing organization, an increase of 5% in labour cost may be more troublesome than a 15% increase in postal charges

Choose the correct answer from the options given below :

- 1. A Only
- 2. C & B Only
- 3. C Only
- 4. D & E Only

Options :

- 485584145873. 1
- 485584145874. 2
- 485584145875. 3
- 485584145876. 4

Question Number : 84 Question Id : 48558436469 Question Type : MCQ Option Shuffling : No Is Question Mandatory : No Calculator : None Response Time : N.A Think Time : N.A Minimum Instruction Time : 0

Correct Marks : 5 Wrong Marks : 1

Question Key Details :

Key	Value
Comprehension	MCQ

ಈ ಕೆಳಗಿನ ಯಾವ ಪರಿಕಲ್ಪನೆ "ನಿರ್ಣಾಯಕ ಹಂತದ ನಿಯಂತ್ರಣ" ಅನ್ವಯಿಸುವುದಿಲ್ಲ?

- A. ನಿಯಂತ್ರಣವು ಪ್ರಮುಖ ಫಲಿತಾಂಶ ಕ್ಷೇತ್ರಗಳ ಮೇಲೆ ಕೇಂದ್ರೀಕರಿಸಬೇಕು.
- B. ಪ್ರಮುಖ ಫಲಿತಾಂಶ ಕ್ಷೇತ್ರಗಳನ್ನು ನಿರ್ಣಾಯಕ ಅಂಶಗಳೆಂದು ನಿರ್ಧರಿಸಲಾಗುವುದಿಲ್ಲ.
- C. ಸಂಸ್ಥೆಯ ಪ್ರತಿಯೊಂದು ಚಟುವಟಿಕೆಯನ್ನು ಪರಿಶೀಲಿಸುವುದು ಆರ್ಥಿಕವಾಗಿ ಪರಿಣಾಮಕಾರಿ ಮತ್ತು ಸುಲಭ.
- D. ನಿರ್ಣಾಯಕ ಹಂತದ ವಿಶ್ಲೇಷಣೆ ತಪ್ಪಾದರೆ ಸಂಪೂರ್ಣ ಸಂಸ್ಥೆಯು ಬಳಲುತ್ತದೆ.
- E. ಉತ್ಪಾದನಾ ಸಂಸ್ಥೆಯಲ್ಲಿ, ಕಾರ್ಮಿಕ ವೆಚ್ಚದಲ್ಲಿ 5% ಹೆಚ್ಚಳವಾಗುವುದು, ಅಂಚೆ ಶುಲ್ಕದ 15% ಹೆಚ್ಚಳಕ್ಕಿಂತ ತ್ರಾಸದಾಯಕ.

ಈ ಕೆಳಗಿನ ಆಯ್ಕೆಗಳಿಂದ ಸರಿಯಾದ ಉತ್ತರವನ್ನು ಆರಿಸಿ:

- 1. A ಮಾತ್ರ
- 2. C ಮತ್ತು B ಮಾತ್ರ
- 3. C ಮಾತ್ರ
- 4. D ಮತ್ತು E ಮಾತ್ರ

Options :

485584145873. 1
485584145874. 2
485584145875. 3
485584145876. 4

Question Number : 85 Question Id : 48558436470 Question Type : MCQ Option Shuffling : No Is Question Mandatory : No Calculator : None Response Time : N.A Think Time : N.A Minimum Instruction Time : 0

Correct Marks : 5 Wrong Marks : 1

Question Key Details :

Key	Value
Comprehension	MCQ

What are the aspects of feasibility analysis under Entrepreneurship Development ?

- A. Technical Aspect
- B. Economic Aspect
- C. Financial Aspect
- D. Commercial Aspect
- E. Political Aspect

Choose the correct answer from the options given below :

- 1. A, B and C Only
- 2. A, B, D and E Only
- 3. A and B Only
- 4. A, B, C and D Only

Options :

485584145877. 1
485584145878. 2
485584145879. 3
485584145880. 4

Question Number : 85 Question Id : 48558436470 Question Type : MCQ Option Shuffling : No Is Question Mandatory : No Calculator : None Response Time : N.A Think Time : N.A Minimum Instruction Time : 0

Correct Marks : 5 Wrong Marks : 1

Question Key Details :

Key	Value
Comprehension	MCQ

ಉದ್ಯಮಶೀಲತೆ ಅಭಿವೃದ್ಧಿಯಲ್ಲಿ, ಕಾರ್ಯ ಸಾಧನೆಯ ವಿಶ್ಲೇಷಣೆಯ ಅಂಶಗಳು ಯಾವುವು?

- A. ತಾಂತ್ರಿಕ ಅಂಶ
- B. ಆರ್ಥಿಕ ಅಂಶ
- C. ಹಣಕಾಸಿನ ಅಂಶ
- D. ವಾಣಿಜ್ಯ ಅಂಶ
- E. ರಾಜಕೀಯ ಅಂಶ

ಈ ಕೆಳಗಿನ ಆಯ್ಕೆಗಳಿಂದ ಸರಿಯಾದ ಉತ್ತರವನ್ನು ಆರಿಸಿ:

1. A, B ಮತ್ತು C ಮಾತ್ರ
2. A, B, D ಮತ್ತು E ಮಾತ್ರ
3. A ಮತ್ತು B ಮಾತ್ರ
4. A, B, C ಮತ್ತು D ಮಾತ್ರ

Options :

- 485584145877. 1
- 485584145878. 2
- 485584145879. 3
- 485584145880. 4

Question Number : 86 Question Id : 48558436471 Question Type : MCQ Option Shuffling : No Is Question Mandatory : No Calculator : None Response Time : N.A Think Time : N.A Minimum Instruction Time : 0

Correct Marks : 5 Wrong Marks : 1

Question Key Details :

Key	Value
Comprehension	MCQ

Match List I with List II

LIST I		LIST II	
A.	Economic environment	I.	Legislations Passed
B.	Social environment	II.	Stock market Indices
C.	Technological environment	III.	New Methods and Techniques
D.	Legal environment	IV.	Traditions

Choose the correct answer from the options given below:

1. A-IV, B-III, C-II, D-I
2. A-II, B-IV, C-III, D-I
3. A-II, B-III, C-IV, D-I
4. A-II, B-I, C-III, D-IV

Options :

- 485584145881. 1
- 485584145882. 2
- 485584145883. 3

Question Number : 86 Question Id : 48558436471 Question Type : MCQ Option Shuffling : No Is Question Mandatory : No Calculator : None Response Time : N.A Think Time : N.A Minimum Instruction Time : 0

Correct Marks : 5 Wrong Marks : 1

Question Key Details :

Key	Value
Comprehension	MCQ

ಪಟ್ಟಿ - I ಅನ್ನು ಪಟ್ಟಿ - IIರ ಜೊತೆ ಹೊಂದಿಸಿ.

ಪಟ್ಟಿ - I		ಪಟ್ಟಿ - II	
A.	ಆರ್ಥಿಕ ಪರಿಸರ	I.	ಅಂಗೀಕರಿಸಿದ ಶಾಸನಗಳು
B.	ಸಾಮಾಜಿಕ ಪರಿಸರ	II.	ಶೇರು ಮಾರುಕಟ್ಟೆ ಸೂಚ್ಯಂಕ
C.	ತಾಂತ್ರಿಕತೆಯ ಪರಿಸರ	III.	ಹೊಸ ವಿಧಾನಗಳು ಮತ್ತು ತಂತ್ರಗಳು
D.	ಕಾನೂನಾತ್ಮಕ ಪರಿಸರ	IV.	ಸಂಪ್ರದಾಯಗಳು

ಈ ಕೆಳಗಿನ ಆಯ್ಕೆಗಳಿಂದ ಸರಿಯಾದ ಉತ್ತರವನ್ನು ಆರಿಸಿ:

1. A-IV, B-III, C-II, D-I
2. A-II, B-IV, C-III, D-I
3. A-II, B-III, C-IV, D-I
4. A-II, B-I, C-III, D-IV

Options :

485584145881. 1
485584145882. 2
485584145883. 3
485584145884. 4

Question Number : 87 Question Id : 48558436472 Question Type : MCQ Option Shuffling : No Is Question Mandatory : No Calculator : None Response Time : N.A Think Time : N.A Minimum Instruction Time : 0

Correct Marks : 5 Wrong Marks : 1

Question Key Details :

Key	Value
Comprehension	MCQ

Match List I with List II

LIST I		LIST II	
A.	Objectives	I.	General Statements
B.	Strategy	II.	Routine steps
C.	Policy	III.	Comprehensive plan
D.	Procedure	IV.	End point of planning

Choose the correct answer from the options given below:

1. A-IV, B-III, C-II, D-I
2. A-IV, B-II, C-III, D-I
3. A-IV, B-I, C-III, D-II
4. A-IV, B-III, C-I, D-II

Options :

485584145885. 1
485584145886. 2
485584145887. 3
485584145888. 4

Question Number : 87 Question Id : 48558436472 Question Type : MCQ Option Shuffling : No Is Question Mandatory : No Calculator : None Response Time : N.A Think Time : N.A Minimum Instruction Time : 0

Correct Marks : 5 Wrong Marks : 1

Question Key Details :

Key	Value
Comprehension	MCQ

ಪಟ್ಟಿ - I ಅನ್ನು ಪಟ್ಟಿ - IIರ ಜೊತೆ ಹೊಂದಿಸಿ.

ಪಟ್ಟಿ - I		ಪಟ್ಟಿ - II	
A.	ಉದ್ದೇಶಗಳು	I.	ಸಾಮಾನ್ಯ ಹೇಳಿಕೆಗಳು
B.	ಕಾರ್ಯತಂತ್ರ	II.	ವಾಡಿಕೆಯ ಹಂತಗಳು
C.	ನೀತಿ	III.	ಸಮಗ್ರ ಯೋಜನೆ
D.	ಕಾರ್ಯವಿಧಾನ	IV.	ಯೋಜನೆಯ ಅಂತ್ಯ

ಈ ಕೆಳಗಿನ ಆಯ್ಕೆಗಳಿಂದ ಸರಿಯಾದ ಉತ್ತರವನ್ನು ಆರಿಸಿ:

1. A-IV, B-III, C-II, D-I
2. A-IV, B-II, C-III, D-I
3. A-IV, B-I, C-III, D-II
4. A-IV, B-III, C-I, D-II

Options :

485584145885. 1
485584145886. 2
485584145887. 3

Question Number : 88 Question Id : 48558436473 Question Type : MCQ Option Shuffling : No Is Question Mandatory : No Calculator : None Response Time : N.A Think Time : N.A Minimum Instruction Time : 0

Correct Marks : 5 Wrong Marks : 1

Question Key Details :

Key	Value
Comprehension	MCQ

Match List I with List II

LIST I (Controlling Process)		LIST II (Related Concept)	
A.	Analysing deviations	I.	It demands managerial attention
B.	Taking corrective action	II.	It becomes easy when quantitative terms are used
C.	Comparison of standard with actuals	III.	To determine acceptable range of deviations
D.	Setting performance standards	IV.	Serves as benchmarks towards which an organization strives to work

Choose the correct answer from the options given below:

1. A-I, B-III, C-II, D-IV
2. A-III, B-I, C-II, D-IV
3. A-III, B-II, C-I, D-IV
4. A-IV, B-III, C-II, D-I

Options :

- 485584145889. 1
- 485584145890. 2
- 485584145891. 3
- 485584145892. 4

Question Number : 88 Question Id : 48558436473 Question Type : MCQ Option Shuffling : No Is Question Mandatory : No Calculator : None Response Time : N.A Think Time : N.A Minimum Instruction Time : 0

Correct Marks : 5 Wrong Marks : 1

Question Key Details :

Key	Value
Comprehension	MCQ

ಪಟ್ಟಿ - I ಅನ್ನು ಪಟ್ಟಿ - IIರ ಜೊತೆ ಹೊಂದಿಸಿ.

ಪಟ್ಟಿ - I (Controlling Process)	ಪಟ್ಟಿ -II (Related Concept)
A. ವ್ಯತ್ಯಾಸಗಳನ್ನು ವಿಶ್ಲೇಷಿಸುವುದು	I. ನಿರ್ವಹಣಾಂಗದ ಕ್ರಮವನ್ನು ತಕ್ಷಣ ಅಪೇಕ್ಷಿಸುತ್ತದೆ
B. ಸರಿಪಡಿಸುವ ಕ್ರಮವನ್ನು ಕೈಗೊಳ್ಳುವುದು	II. ಪರಿಮಾಣಾತ್ಮಕವಾಗಿ ನಿರ್ಧರಿಸಿದಾಗ ಹೋಲಿಕೆ ಸುಲಭವಾಗುತ್ತದೆ
C. ನೈಜ ಕಾರ್ಯ ನಿರ್ವಹಣೆಯನ್ನು ತಿಪ್ಪಗಳೊಂದಿಗೆ ಹೋಲಿಸುವುದು	III. ಒಪ್ಪಿಕೊಳ್ಳಬಹುದಾದ ವ್ಯತ್ಯಾಸದ ವ್ಯಾಪ್ತಿಯನ್ನು ನಿರ್ಧರಿಸುವುದು
D. ಕಾರ್ಯನಿರ್ವಹಣೆಯ ತಿಪ್ಪಗಳನ್ನು ನಿರ್ಧರಿಸುವುದು	IV. ಸಂಸ್ಥೆಯು ಸಾಧಿಸಲು ಪ್ರಯತ್ನಿಸುವ ಮಾನದಂಡಗಳಾಗಿ ಕಾರ್ಯ ನಿರ್ವಹಿಸುತ್ತವೆ

ಈ ಕೆಳಗಿನ ಆಯ್ಕೆಗಳಿಂದ ಸರಿಯಾದ ಉತ್ತರವನ್ನು ಆರಿಸಿ:

1. A-I, B-III, C-II, D-IV
2. A-III, B-I, C-II, D-IV
3. A-III, B-II, C-I, D-IV
4. A-IV, B-III, C-II, D-I

Options :

485584145889. 1
485584145890. 2
485584145891. 3
485584145892. 4

Question Number : 89 Question Id : 48558436474 Question Type : MCQ Option Shuffling : No Is Question Mandatory : No Calculator : None Response Time : N.A Think Time : N.A Minimum Instruction Time : 0

Correct Marks : 5 Wrong Marks : 1

Question Key Details :

Key	Value
Comprehension	MCQ

Match List I with List II

LIST I		LIST II	
A.	Interest Coverage Ratio	I.	Rate of return
B.	Choice of Technique	II.	Fixed Capital
C.	Credit Allowed	III.	Capital structure
D.	Capital budgeting decisions	IV.	Working Capital

Choose the correct answer from the options given below:

1. A-II, B-III, C-IV, D-I
2. A-III, B-II, C-I, D-IV
3. A-III, B-II, C-IV, D-I
4. A-II, B-IV, C-III, D-I

Options :

485584145893. 1
485584145894. 2
485584145895. 3
485584145896. 4

Question Number : 89 Question Id : 48558436474 Question Type : MCQ Option Shuffling : No Is Question Mandatory : No Calculator : None Response Time : N.A Think Time : N.A Minimum Instruction Time : 0

Correct Marks : 5 Wrong Marks : 1

Question Key Details :

Key	Value
Comprehension	MCQ

ಪಟ್ಟಿ - I ಅನ್ನು ಪಟ್ಟಿ - IIರ ಜೊತೆ ಹೊಂದಿಸಿ.

ಪಟ್ಟಿ - I		ಪಟ್ಟಿ - II	
A.	ಬಡ್ಡಿ ವ್ಯಾಪ್ತಿ ಅನುಪಾತ	I.	ರಿಟರ್ನ್ ದರ
B.	ತಂತ್ರದ ಆಯ್ಕೆ	II.	ಸ್ಥಿರ ಬಂಡವಾಳ
C.	ಕ್ರೆಡಿಟ್ ಅನುಮತಿಸಲಾಗಿದೆ	III.	ಕ್ರೆಡಿಟ್ ಅನುಮತಿಸಲಾಗಿದೆ
D.	ಬಂಡವಾಳ ಬಜೆಟ್ ನಿರ್ಧಾರಗಳು	IV.	ಬಂಡವಾಳ ಬಜೆಟ್ ನಿರ್ಧಾರಗಳು

ಈ ಕೆಳಗಿನ ಆಯ್ಕೆಗಳಿಂದ ಸರಿಯಾದ ಉತ್ತರವನ್ನು ಆರಿಸಿ:

1. A-II, B-III, C-IV, D-I
2. A-III, B-II, C-I, D-IV
3. A-III, B-II, C-IV, D-I
4. A-II, B-IV, C-III, D-I

Options :

485584145893. 1
485584145894. 2

485584145895. 3

485584145896. 4

Question Number : 90 Question Id : 48558436475 Question Type : MCQ Option Shuffling : No Is Question Mandatory : No Calculator : None Response Time : N.A Think Time : N.A Minimum Instruction Time : 0

Correct Marks : 5 Wrong Marks : 1

Question Key Details :

Key	Value
Comprehension	MCQ

Match List I with List II

LIST I		LIST II	
A.	Shopping Products	I.	Cigarettes, Ice cream, Medicines
B.	Speciality Products	II.	Raw materials, Engines, Lubricants
C.	Industrial Products	III.	Radio, Jewellery, Furniture
D.	Convenience Products	IV.	Salon, Restaurant, Boutique

Choose the correct answer from the options given below:

1. A-I, B-II, C-IV, D-III

2. A-III, B-I, C-II, D-IV

3. A-III, B-IV, C-II, D-I

4. A-IV, B-III, C-II, D-I

Options :

485584145897. 1

485584145898. 2

485584145899. 3

485584145900. 4

Question Number : 90 Question Id : 48558436475 Question Type : MCQ Option Shuffling : No Is Question Mandatory : No Calculator : None Response Time : N.A Think Time : N.A Minimum Instruction Time : 0

Correct Marks : 5 Wrong Marks : 1

Question Key Details :

Key	Value
Comprehension	MCQ

ಪಟ್ಟಿ - I ಅನ್ನು ಪಟ್ಟಿ - IIರ ಜೊತೆ ಹೊಂದಿಸಿ.

ಪಟ್ಟಿ - I		ಪಟ್ಟಿ - II	
A.	ಋರೀದಿ ಪ್ರಧಾನ ಉತ್ಪನ್ನಗಳು	I.	ಸಿಗರೇಟ್, ಐಸಕ್ರೀಮ್, ಔಷಧಿಗಳು
B.	ವಿಶಿಷ್ಟ ಉತ್ಪನ್ನಗಳು	II.	ಕಚ್ಚಾವಸ್ತುಗಳು, ಇಂಜಿನ್ನುಗಳು, ಕೀಲಿಚ್ಚಗಳು
C.	ಕೈಗಾರಿಕಾ ಉತ್ಪನ್ನಗಳು	III.	ರೇಡಿಯೋ, ಆಭರಣಗಳು, ಪೀರೋಪಕರಣಗಳು
D.	ಆನುಕೂಲ ಉತ್ಪನ್ನಗಳು	IV.	ಕೈರದಂಗಡಿ, ರೆಸ್ಟೋರಂಟ್, ದರ್ಜಿ

ಈ ಕೆಳಗಿನ ಆಯ್ಕೆಗಳಿಂದ ಸರಿಯಾದ ಉತ್ತರವನ್ನು ಆರಿಸಿ:

1. A-I, B-II, C-IV, D-III

2. A-III, B-I, C-II, D-IV

3. A-III, B-IV, C-II, D-I

4. A-IV, B-III, C-II, D-I

Options :

485584145897. 1

485584145898. 2

485584145899. 3

485584145900. 4

Sub-Section Number :

2

Sub-Section Id :

4855842694

Question Shuffling Allowed :

No

Is Section Default? :

null

Question Number : 91 Question Id : 48558436476 Question Type : MCQ Option Shuffling : No Is Question Mandatory : No Calculator : None Response Time : N.A Think Time : N.A Minimum Instruction Time : 0

Correct Marks : 5 Wrong Marks : 1

Question Key Details :

Key	Value
Comprehension	Comp1

Mr. Rehan has done a diploma in Financial market and its participants. Recently he got a chance to present his knowledge and train students in a school. He told students about various money market instruments. He mentioned about an instrument which is issued by R.B.I on behalf of Central Government. He told students that Banks use a system to borrow money (an instrument) to manage their CRR i.e Cash Reserve Ratio. Later, he mentioned a short term self liquidating instrument like Bills of Exchange that can be used for arranging working capital. He also told students about an instrument that helps to mobilise large amounts of money in short period by commercial banks. Lastly, Mr. Rehan spoke about an instrument that works as a replacement towards bank borrowing for large credit-worthy companies, its maturity period is 15 days to one year.

"He mentioned about an Instrument which is issued by RBI on behalf of Central Government"

Identify the Money instrument to which the above given line is related to.

1. Call money
2. Commercial Papers
3. Treasury Bills
4. Commercial Bills

Options :

485584145901. 1
485584145902. 2
485584145903. 3
485584145904. 4

Question Number : 91 Question Id : 48558436476 Question Type : MCQ Option Shuffling : No Is Question Mandatory : No Calculator : None Response Time : N.A Think Time : N.A Minimum Instruction Time : 0

Correct Marks : 5 Wrong Marks : 1

Question Key Details :

Key	Value
Comprehension	Compl

ರೆಹಾನ್, ಹಣಕಾಸು ಮಾರುಕಟ್ಟೆಗಳು ಮತ್ತು ಅದರ ಭಾಗವಹಿಸುವವರ ಮೇಲೆ ಡಿಪೋಸಿಟ್‌ಗಳನ್ನು ಮಾಡುತ್ತಾನೆ. ಇತ್ತೀಚೆಗೆ ಅವನ ಜ್ಞಾನವನ್ನು ಪ್ರಸ್ತುತಪಡಿಸಲು ಮತ್ತು ಶಾಲೆಯಲ್ಲಿ ವಿದ್ಯಾರ್ಥಿಗಳಿಗೆ ತರಬೇತಿ ನೀಡಲು ಅವಕಾಶ ಸಿಕ್ಕಿತು. ಅವನು ವಿವಿಧ ಬಂಡವಾಳ ಮಾರುಕಟ್ಟೆ ಉಪಕರಣಗಳ ಬಗ್ಗೆ ವಿದ್ಯಾರ್ಥಿಗಳಿಗೆ ತಿಳಿಸಿದನು. ಅವನು ಕೇಂದ್ರ ಸರ್ಕಾರದ ಪರವಾಗಿ ಭಾರತೀಯ ರಿಸರ್ವ್ ಬ್ಯಾಂಕ್ ಹೊರಡಿಸುವ ಉಪಕರಣಗಳ ಬಗ್ಗೆ ಪ್ರಸ್ತಾಪಿಸಿದನು. ಅವನು ಹಣವನ್ನು ಖರೀದಿಸಲು ಮತ್ತು ಅವರ ನಗದು ಮೀಸಲು ಅನುಪಾತವನ್ನು ನಿರ್ವಹಿಸಲು ಬ್ಯಾಂಕ್‌ಗಳು ವ್ಯವಸ್ಥೆಯನ್ನು ಬಳಸುತ್ತವೆ. ಎಂದು ತಿಳಿಸಿದನು. ಆಮೇಲೆ ಅವನು ಕಾರ್ಯನಿರತ ಬಂಡವಾಳವನ್ನು ವ್ಯವಸ್ಥೆಗೊಳಿಸಲು ಬಳಸಬಹುದಾದ ವಿನಿಮಯದ ಮೂಲದಂತಹ ಅಲ್ಪಾವಧಿಯ ಲಿಕ್ವಿಡ್‌ಟಿಂಗ್ ಉಪಕರಣವನ್ನು ಪ್ರಸ್ತಾಪಿಸಿದನು. ಅವನು ವಿದ್ಯಾರ್ಥಿಗಳಿಗೆ ವಾಣಿಜ್ಯ ಬ್ಯಾಂಕ್‌ಗಳಿಂದ ಕಡಿಮೆ ಅವಧಿಯಲ್ಲಿ ದೊಡ್ಡ ಮೊತ್ತದ ಹಣವನ್ನು ಕ್ರೋಡೀಕರಿಸಲು ಸಹಾಯ ಮಾಡುವ ಸಾಧನದ ಬಗ್ಗೆ ಹೇಳಿದನು. ದೊಡ್ಡ ಹಾಗೂ ಸಾಲಯೋಗ್ಯ ಕಂಪನಿಗಳು ಬ್ಯಾಂಕಿನ ಸಾಲದ ಬದಲಿಗೆ ಉಪಯೋಗಿಸುವ ಮತ್ತು ಅದರ ಪಕ್ಕತೆಯ ಅವಧಿಯು 15 ದಿನಗಳಿಂದ ಒಂದು ವರ್ಷದ ವರೆಗೆ ಇರುತ್ತದೆ ಎಂದು ಒಂದು ಸಾಧನದ ಬಗ್ಗೆ ಅವನು ಮಾತನಾಡಿದ.

"ಭಾರತೀಯ ರಿಸರ್ವ್ ಬ್ಯಾಂಕ್ ಈ ಸಾಧನವನ್ನು ಕೇಂದ್ರ ಸರ್ಕಾರದ ಪರವಾಗಿ ನೀಡುತ್ತದೆ ಎಂದು ಅವನು ಉಲ್ಲೇಖಿಸಿದನು".

ಮೇಲೆ ಸೂಚಿಸಿರುವ ವಾಕ್ಯಕ್ಕೆ ಅನುಗುಣವಾಗಿ ಯಾವ ಹಣದ ಸಾಧನ ಸಂಬಂಧಿಸಿದೆ ಎಂಬುದನ್ನು ಗುರುತಿಸಿ.

1. ಕರೆ ಹಣ
2. ವಾಣಿಜ್ಯ ಪತ್ರಗಳು
3. ಖಜಾನೆ ಹುಂಡಿಗಳು
4. ವಾಣಿಜ್ಯ ಹುಂಡಿಗಳು

Options :

485584145901. 1
485584145902. 2
485584145903. 3
485584145904. 4

Question Number : 92 Question Id : 48558436477 Question Type : MCQ Option Shuffling : No Is Question Mandatory : No Calculator : None Response Time : N.A Think Time : N.A Minimum Instruction Time : 0

Correct Marks : 5 Wrong Marks : 1

Question Key Details :

Key	Value
Comprehension	Compl

Mr. Rehan has done a diploma in Financial market and its participants. Recently he got a chance to present his knowledge and train students in a school. He told students about various money market instruments. He mentioned about an instrument which is issued by R.B.I on behalf of Central Government. He told students that Banks use a system to borrow money (an instrument) to manage their CRR i.e Cash Reserve Ratio. Later, he mentioned a short term self liquidating instrument like Bills of Exchange that can be used for arranging working capital. He also told students about an instrument that helps to mobilise large amounts of money in short period by commercial banks. Lastly, Mr. Rehan spoke about an instrument that works as a replacement towards bank borrowing for large credit-worthy companies, its maturity period is 15 days to one year.

He told that Banks use a system to borrow money (an instrument) to manage their cash Reserve Ratio.

Which security amongst money market Instrument is mentioned here.

1. Call money
2. Commercial papers
3. Treasury bills
4. Commercial Bills

Options :

485584145905. 1
485584145906. 2
485584145907. 3
485584145908. 4

Question Number : 92 Question Id : 48558436477 Question Type : MCQ Option Shuffling : No Is Question Mandatory : No Calculator : None Response Time : N.A Think Time : N.A Minimum Instruction Time : 0
 Correct Marks : 5 Wrong Marks : 1

Question Key Details :

Key	Value
Comprehension	Comp1

ರೆಹಾನ್, ಹಣಕಾಸು ಮಾರುಕಟ್ಟೆಗಳು ಮತ್ತು ಅದರ ಭಾಗವಹಿಸುವವರ ಮೇಲೆ ಡಿಪ್ರೆಷನ್‌ನನ್ನು ಮಾಡಿರುತ್ತಾನೆ. ಇತ್ತೀಚೆಗೆ ಅವನ ಜ್ಞಾನವನ್ನು ಪ್ರಸ್ತುತಪಡಿಸಲು ಮತ್ತು ಶಾಲೆಯಲ್ಲಿ ವಿದ್ಯಾರ್ಥಿಗಳಿಗೆ ತರಬೇತಿ ನೀಡಲು ಅವಕಾಶ ಸಿಕ್ಕಿತು. ಅವನು ವಿವಿಧ ಬಂಡವಾಳ ಮಾರುಕಟ್ಟೆ ಉಪಕರಣಗಳ ಬಗ್ಗೆ ವಿದ್ಯಾರ್ಥಿಗಳಿಗೆ ತಿಳಿಸಿದನು, ಅವನು ಕೇಂದ್ರ ಸರ್ಕಾರದ ಪರವಾಗಿ ಭಾರತೀಯ ರಿಸರ್ವ್ ಬ್ಯಾಂಕ್ ಹೊರಡಿಸುವ ಉಪಕರಣಗಳ ಬಗ್ಗೆ ಪ್ರಸ್ತಾಪಿಸಿದನು. ಅವನು ಹಣವನ್ನು ಖರೀದಿಸಲು ಮತ್ತು ಅವರ ನಗದು ಮೀಸಲು ಅನುಪಾತವನ್ನು ನಿರ್ವಹಿಸಲು ಬ್ಯಾಂಕ್‌ಗಳು ವ್ಯವಸ್ಥೆಯನ್ನು ಬಳಸುತ್ತವೆ ಎಂದು ತಿಳಿಸಿದನು. ಆಮೇಲೆ ಅವನು ಕಾರ್ಯನಿರತ ಬಂಡವಾಳವನ್ನು ವ್ಯವಸ್ಥೆಗೊಳಿಸಲು ಬಳಸಬಹುದಾದ ವಿನಿಮಯದ ಮಸೂದೆಯಂತಹ ಅಲ್ಪಾವಧಿಯ ಲಿಕ್ವಿಡ್‌ಟಿಂಗ್ ಉಪಕರಣವನ್ನು ಪ್ರಸ್ತಾಪಿಸಿದನು. ಅವನು ವಿದ್ಯಾರ್ಥಿಗಳಿಗೆ ವಾಣಿಜ್ಯ ಬ್ಯಾಂಕ್‌ಗಳಿಂದ ಕಡಿಮೆ ಅವಧಿಯಲ್ಲಿ ದೊಡ್ಡ ಮೊತ್ತದ ಹಣವನ್ನು ಕ್ರೋಡೀಕರಿಸಲು ಸಹಾಯ ಮಾಡುವ ಸಾಧನದ ಬಗ್ಗೆ ಹೇಳಿದನು. ದೊಡ್ಡ ಹಾಗೂ ಸಾಲಯೋಗ್ಯ ಕಂಪನಿಗಳು ಬ್ಯಾಂಕಿನ ಸಾಲದ ಬದಲಿಗೆ ಉಪಯೋಗಿಸುವ ಮತ್ತು ಅದರ ಪಕ್ಕತೆಯ ಅವಧಿಯು 15 ದಿನಗಳಿಂದ ಒಂದು ವರ್ಷದ ವರೆಗೆ ಇರುತ್ತದೆ ಎಂದು ಒಂದು ಸಾಧನದ ಬಗ್ಗೆ ಅವನು ಮಾತನಾಡಿದ.

ಅವನು "ನಗದು ಮೀಸಲು ಅನುಪಾತವನ್ನು ನಿರ್ವಹಿಸಲು ಬ್ಯಾಂಕ್‌ಗಳು _____ ಅನ್ನು ಉಪಯೋಗಿಸುತ್ತವೆ ಎಂದನು."

ಯಾವ ಭದ್ರತಾ ಹಣದ ಮಾರುಕಟ್ಟೆ ಸಾಧನವನ್ನು ಇಲ್ಲಿ ಉಲ್ಲೇಖಿಸಲಾಗಿದೆ?

1. ಕರೆ ಹಣ
2. ವಾಣಿಜ್ಯ ಪತ್ರಗಳು
3. ಖಜಾನೆ ಹುಂಡಿಗಳು
4. ವಾಣಿಜ್ಯ ಹುಂಡಿಗಳು

Options :

485584145905. 1
 485584145906. 2
 485584145907. 3
 485584145908. 4

Question Number : 93 Question Id : 48558436478 Question Type : MCQ Option Shuffling : No Is Question Mandatory : No Calculator : None Response Time : N.A Think Time : N.A Minimum Instruction Time : 0
 Correct Marks : 5 Wrong Marks : 1

Question Key Details :

Key	Value
Comprehension	Comp1

Mr. Rehan has done a diploma in Financial market and its participants. Recently he got a chance to present his knowledge and train students in a school. He told students about various money market instruments. He mentioned about an instrument which is issued by R.B.I on behalf of Central Government. He told students that Banks use a system to borrow money (an instrument) to manage their CRR i.e Cash Reserve Ratio. Later, he mentioned a short term self liquidating instrument like Bills of Exchange that can be used for arranging working capital. He also told students about an instrument that helps to mobilise large amounts of money in short period by commercial banks. Lastly, Mr. Rehan spoke about an instrument that works as a replacement towards bank borrowing for large credit-worthy companies, its maturity period is 15 days to one year.

"A short term self liquidating like Bills of Exchange than can be used for arranging working capital".

Which Money Market instrument, was Mr. Rehan referring to?

1. Call money
2. Certificate of Deposit
3. Commercial bills
4. Commercial papers

Options :

485584145909. 1
 485584145910. 2
 485584145911. 3
 485584145912. 4

Question Number : 93 Question Id : 48558436478 Question Type : MCQ Option Shuffling : No Is Question Mandatory : No Calculator : None Response Time : N.A Think Time : N.A Minimum Instruction Time : 0

Correct Marks : 5 Wrong Marks : 1

Question Key Details :

Key	Value
Comprehension	Compl

ರೆಹಾನ್, ಹಣಕಾಸು ಮಾರುಕಟ್ಟೆಗಳು ಮತ್ತು ಅದರ ಭಾಗವಹಿಸುವವರ ಮೇಲೆ ಡಿಪ್ಲೊಮಾವನ್ನು ಮಾಡಿರುತ್ತಾನೆ. ಇತ್ತೀಚೆಗೆ ಅವನ ಜ್ಞಾನವನ್ನು ಪ್ರಸ್ತುತಪಡಿಸಲು ಮತ್ತು ಶಾಲೆಯಲ್ಲಿ ವಿದ್ಯಾರ್ಥಿಗಳಿಗೆ ತರಬೇತಿ ನೀಡಲು ಅವಕಾಶ ಸಿಕ್ಕಿತು. ಅವನು ವಿವಿಧ ಬಂಡವಾಳ ಮಾರುಕಟ್ಟೆ ಉಪಕರಣಗಳ ಬಗ್ಗೆ ವಿದ್ಯಾರ್ಥಿಗಳಿಗೆ ತಿಳಿಸಿದನು, ಅವನು ಕೇಂದ್ರ ಸರ್ಕಾರದ ಪರವಾಗಿ ಭಾರತೀಯ ರಿಸರ್ವ್ ಬ್ಯಾಂಕ್ ಹೊರಡಿಸುವ ಉಪಕರಣಗಳ ಬಗ್ಗೆ ಪ್ರಸ್ತಾಪಿಸಿದನು. ಅವನು ಹಣವನ್ನು ಖರೀದಿಸಲು ಮತ್ತು ಅವರ ನಗದು ಮೀಸಲು ಅನುಪಾತವನ್ನು ನಿರ್ವಹಿಸಲು ಬ್ಯಾಂಕ್‌ಗಳು ವ್ಯವಸ್ಥೆಯನ್ನು ಬಳಸುತ್ತವೆ. ಎಂದು ತಿಳಿಸಿದನು. ಆಮೇಲೆ ಅವನು ಕಾರ್ಯನಿರತ ಬಂಡವಾಳವನ್ನು ವ್ಯವಸ್ಥೆಗೊಳಿಸಲು ಬಳಸಬಹುದಾದ ವಿನಿಮಯದ ಮಸೂದೆಯಂತಹ ಅಲ್ಪಾವಧಿಯ ಲಿಕ್ವಿಡೇಟಿಂಗ್ ಉಪಕರಣವನ್ನು ಪ್ರಸ್ತಾಪಿಸಿದನು. ಅವನು ವಿದ್ಯಾರ್ಥಿಗಳಿಗೆ ವಾಣಿಜ್ಯ ಬ್ಯಾಂಕ್‌ಗಳಿಂದ ಕಡಿಮೆ ಅವಧಿಯಲ್ಲಿ ದೊಡ್ಡ ಮೊತ್ತದ ಹಣವನ್ನು ಕ್ರೋಡೀಕರಿಸಲು ಸಹಾಯ ಮಾಡುವ ಸಾಧನದ ಬಗ್ಗೆ ಹೇಳಿದನು. ದೊಡ್ಡ ಹಾಗೂ ಸಾಲಯೋಗ್ಯ ಕಂಪನಿಗಳು ಬ್ಯಾಂಕಿನ ಸಾಲದ ಬದಲಿಗೆ ಉಪಯೋಗಿಸುವ ಮತ್ತು ಅದರ ಪಕ್ಕತೆಯ ಅವಧಿಯು 15 ದಿನಗಳಿಂದ ಒಂದು ವರ್ಷದ ವರೆಗೆ ಇರುತ್ತದೆ ಎಂದು ಒಂದು ಸಾಧನದ ಬಗ್ಗೆ ಅವನು ಮಾತನಾಡಿದ.

"ಕಾರ್ಯನಿರತ ಬಂಡವಾಳವನ್ನು ವ್ಯವಸ್ಥೆಗೊಳಿಸಲು ಬಳಸಬಹುದಾದ ವಿನಿಮಯದ ಬಿಲ್‌ಗಳಂತಹ ಅಲ್ಪಾವಧಿಯ ಸ್ವಯಂ ದಿವಾಳಿ".

ಇಲ್ಲಿ ಯಾವ ಹಣದ ಮಾರುಕಟ್ಟೆ ಸಾಧನವನ್ನು ಶ್ರೀ ರಹಾನ್ ಉಲ್ಲೇಖಿಸಿದ್ದಾರೆ?

1. ಕರೆ ಹಣ
2. ಠೇವಣಿ ಪ್ರಮಾಣ ಪತ್ರ
3. ವಾಣಿಜ್ಯ ಹುಂಡಿಗಳು
4. ವಾಣಿಜ್ಯ ಪತ್ರಗಳು

Options :

485584145909. 1
485584145910. 2
485584145911. 3
485584145912. 4

Question Number : 94 Question Id : 48558436479 Question Type : MCQ Option Shuffling : No Is Question Mandatory : No Calculator : None Response Time : N.A Think Time : N.A Minimum Instruction Time : 0

Correct Marks : 5 Wrong Marks : 1

Question Key Details :

Key	Value
Comprehension	Compl

Mr. Rehan has done a diploma in Financial market and its participants. Recently he got a chance to present his knowledge and train students in a school. He told students about various money market instruments. He mentioned about an instrument which is issued by R.B.I on behalf of Central Government. He told students that Banks use a system to borrow money (an instrument) to manage their CRR i.e Cash Reserve Ratio. Later, he mentioned a short term self liquidating instrument like Bills of Exchange that can be used for arranging working capital. He also told students about an instrument that helps to mobilise large amounts of money in short period by commercial banks. Lastly, Mr. Rehan spoke about an instrument that works as a replacement towards bank borrowing for large credit-worthy companies, its maturity period is 15 days to one year.

"An instrument that helps to mobilise large amounts of money in short period by commercial banks".

Identify the money market instrument stated above :

1. Certificate of Deposit
2. Call money
3. Commercial bills
4. Treasury bills

Options :

485584145913. 1
485584145914. 2
485584145915. 3

Question Number : 94 Question Id : 48558436479 Question Type : MCQ Option Shuffling : No Is Question Mandatory : No Calculator : None Response Time : N.A Think Time : N.A Minimum Instruction Time : 0

Correct Marks : 5 Wrong Marks : 1

Question Key Details :

Key	Value
Comprehension	Compl

ರೆಹಾನ್, ಹಣಕಾಸು ಮಾರುಕಟ್ಟೆಗಳು ಮತ್ತು ಅದರ ಭಾಗವಹಿಸುವವರ ಮೇಲೆ ಡಿಪ್ರೆಷಿಯಾವನ್ನು ಮಾಡಿರುತ್ತಾನೆ. ಇತ್ತೀಚೆಗೆ ಅವನ ಜ್ಞಾನವನ್ನು ಪ್ರಸ್ತುತಪಡಿಸಲು ಮತ್ತು ಶಾಲೆಯಲ್ಲಿ ವಿದ್ಯಾರ್ಥಿಗಳಿಗೆ ತರಬೇತಿ ನೀಡಲು ಅವಕಾಶ ಸಿಕ್ಕಿತು. ಅವನು ವಿವಿಧ ಬಂಡವಾಳ ಮಾರುಕಟ್ಟೆ ಉಪಕರಣಗಳ ಬಗ್ಗೆ ವಿದ್ಯಾರ್ಥಿಗಳಿಗೆ ತಿಳಿಸಿದನು. ಅವನು ಕೇಂದ್ರ ಸರ್ಕಾರದ ಪರವಾಗಿ ಭಾರತೀಯ ರಿಸರ್ವ್ ಬ್ಯಾಂಕ್ ಹೊರಡಿಸುವ ಉಪಕರಣಗಳ ಬಗ್ಗೆ ಪ್ರಸ್ತಾಪಿಸಿದನು. ಅವನು ಹಣವನ್ನು ಖರೀದಿಸಲು ಮತ್ತು ಅವರ ನಗದು ಮೀಸಲು ಅನುಪಾತವನ್ನು ನಿರ್ವಹಿಸಲು ಬ್ಯಾಂಕ್‌ಗಳು ವ್ಯವಸ್ಥೆಯನ್ನು ಬಳಸುತ್ತವೆ. ಎಂದು ತಿಳಿಸಿದನು. ಅಮೇಲೆ ಅವನು ಕಾರ್ಯನಿರತ ಬಂಡವಾಳವನ್ನು ವ್ಯವಸ್ಥೆಗೊಳಿಸಲು ಬಳಸಬಹುದಾದ ವಿನಿಮಯದ ಮಸೂದೆಯಂತಹ ಅಲ್ಪಾವಧಿಯ ಲಿಕ್ವಿಡೇಟಿಂಗ್ ಉಪಕರಣವನ್ನು ಪ್ರಸ್ತಾಪಿಸಿದನು. ಅವನು ವಿದ್ಯಾರ್ಥಿಗಳಿಗೆ ವಾಣಿಜ್ಯ ಬ್ಯಾಂಕ್‌ಗಳಿಂದ ಕಡಿಮೆ ಅವಧಿಯಲ್ಲಿ ದೊಡ್ಡ ಮೊತ್ತದ ಹಣವನ್ನು ಕ್ರೋಡೀಕರಿಸಲು ಸಹಾಯ ಮಾಡುವ ಸಾಧನದ ಬಗ್ಗೆ ಹೇಳಿದನು. ದೊಡ್ಡ ಹಾಗೂ ಸಾಲಯೋಗ್ಯ ಕಂಪನಿಗಳು ಬ್ಯಾಂಕಿನ ಸಾಲದ ಬದಲಿಗೆ ಉಪಯೋಗಿಸುವ ಮತ್ತು ಅದರ ಪಕ್ಕತೆಯ ಅವಧಿಯು 15 ದಿನಗಳಿಂದ ಒಂದು ವರ್ಷದ ವರೆಗೆ ಇರುತ್ತದೆ ಎಂದು ಒಂದು ಸಾಧನದ ಬಗ್ಗೆ ಅವನು ಮಾತನಾಡಿದ.

"ದೊಡ್ಡ ಪ್ರಮಾಣದ ಹಣವನ್ನು ಸಜ್ಜುಗೊಳಿಸಲು ಸಹಾಯ ಮಾಡುವ ಈ ಸಾಧನವನ್ನು _____ ವಾಣಿಜ್ಯ ಬ್ಯಾಂಕ್‌ಗಳಿಂದ ಒದಗಿಸಲಾಗುತ್ತದೆ."

ಇದು ಯಾವ ಸಾಧನಕ್ಕೆ ಸಂಬಂಧಿಸಿದೆ?

1. ಠೇವಣಿ ಪ್ರಮಾಣ ಪತ್ರ
2. ಕರೆ ಹಣ
3. ವಾಣಿಜ್ಯ ಹುಂಡಿಗಳು
4. ಖಜಾನೆ ಹುಂಡಿಗಳು

Options :

485584145913. 1
485584145914. 2
485584145915. 3
485584145916. 4

Question Number : 95 Question Id : 48558436480 Question Type : MCQ Option Shuffling : No Is Question Mandatory : No Calculator : None Response Time : N.A Think Time : N.A Minimum Instruction Time : 0

Correct Marks : 5 Wrong Marks : 1

Question Key Details :

Key	Value
Comprehension	Compl

Mr. Rehan has done a diploma in Financial market and its participants. Recently he got a chance to present his knowledge and train students in a school. He told students about various money market instruments. He mentioned about an instrument which is issued by R.B.I on behalf of Central Government. He told students that Banks use a system to borrow money (an instrument) to manage their CRR i.e Cash Reserve Ratio. Later, he mentioned a short term self liquidating instrument like Bills of Exchange that can be used for arranging working capital. He also told students about an instrument that helps to mobilise large amounts of money in short period by commercial banks. Lastly, Mr. Rehan spoke about an instrument that works as a replacement towards bank borrowing for large credit-worthy companies, its maturity period is 15 days to one year.

"An instrument that works as a replacement towards bank borrowing for large Credit-worthy companies, its maturity period is 15 days to one year".

Identify the money market instrument stated in the above lines.

1. Call money
2. Commercial papers
3. Commercial bills
4. Certificate of Deposit

Options :

485584145917. 1
485584145918. 2
485584145919. 3
485584145920. 4

Question Number : 95 Question Id : 48558436480 Question Type : MCQ Option Shuffling : No Is Question Mandatory : No Calculator : None Response Time : N.A Think Time : N.A Minimum Instruction Time : 0

Correct Marks : 5 Wrong Marks : 1

Question Key Details :

Key	Value
Comprehension	Comp1

ರೆಹಾನ್, ಹಣಕಾಸು ಮಾರುಕಟ್ಟೆಗಳು ಮತ್ತು ಅದರ ಭಾಗವಹಿಸುವವರ ಮೇಲೆ ಡಿಪ್ಲೊಮಾವನ್ನು ಮಾಡಿರುತ್ತಾನೆ. ಇತ್ತೀಚೆಗೆ ಅವನ ಜ್ಞಾನವನ್ನು ಪ್ರಸ್ತುತಪಡಿಸಲು ಮತ್ತು ಶಾಲೆಯಲ್ಲಿ ವಿದ್ಯಾರ್ಥಿಗಳಿಗೆ ತರಬೇತಿ ನೀಡಲು ಅವಕಾಶ ಸಿಕ್ಕಿತು. ಅವನು ವಿವಿಧ ಬಂಡವಾಳ ಮಾರುಕಟ್ಟೆ ಉಪಕರಣಗಳ ಬಗ್ಗೆ ವಿದ್ಯಾರ್ಥಿಗಳಿಗೆ ತಿಳಿಸಿದನು. ಅವನು ಕೇಂದ್ರ ಸರ್ಕಾರದ ಪರವಾಗಿ ಭಾರತೀಯ ರಿಸರ್ವ್ ಬ್ಯಾಂಕ್ ಹೊರಡಿಸುವ ಉಪಕರಣಗಳ ಬಗ್ಗೆ ಪ್ರಸ್ತಾಪಿಸಿದನು. ಅವನು ಹಣವನ್ನು ಖರೀದಿಸಲು ಮತ್ತು ಅವರ ನಗದು ಮೀಸಲು ಅನುಪಾತವನ್ನು ನಿರ್ವಹಿಸಲು ಬ್ಯಾಂಕ್‌ಗಳು ವ್ಯವಸ್ಥೆಯನ್ನು ಬಳಸುತ್ತವೆ ಎಂದು ತಿಳಿಸಿದನು. ಆಮೇಲೆ ಅವನು ಕಾರ್ಯನಿರತ ಬಂಡವಾಳವನ್ನು ವ್ಯವಸ್ಥೆಗೊಳಿಸಲು ಬಳಸಬಹುದಾದ ವಿನಿಮಯದ ಮಸೂದೆಯಂತಹ ಅಲ್ಪಾವಧಿಯ ಲಿಕ್ವಿಡೇಟಿಂಗ್ ಉಪಕರಣವನ್ನು ಪ್ರಸ್ತಾಪಿಸಿದನು. ಅವನು ವಿದ್ಯಾರ್ಥಿಗಳಿಗೆ ವಾಣಿಜ್ಯ ಬ್ಯಾಂಕ್‌ಗಳಿಂದ ಕಡಿಮೆ ಅವಧಿಯಲ್ಲಿ ದೊಡ್ಡ ಮೊತ್ತದ ಹಣವನ್ನು ಕ್ರೋಡೀಕರಿಸಲು ಸಹಾಯ ಮಾಡುವ ಸಾಧನದ ಬಗ್ಗೆ ಹೇಳಿದನು. ದೊಡ್ಡ ಹಾಗೂ ಸಾಲಯೋಗ್ಯ ಕಂಪನಿಗಳು ಬ್ಯಾಂಕಿನ ಸಾಲದ ಬದಲಿಗೆ ಉಪಯೋಗಿಸುವ ಮತ್ತು ಅದರ ಪಕ್ಕತೆಯ ಅವಧಿಯು 15 ದಿನಗಳಿಂದ ಒಂದು ವರ್ಷದ ವರೆಗೆ ಇರುತ್ತದೆ ಎಂದು ಒಂದು ಸಾಧನದ ಬಗ್ಗೆ ಅವನು ಮಾತನಾಡಿದ.

"ದೊಡ್ಡ ಹಾಗೂ ಸಾಲಯೋಗ್ಯ ಕಂಪನಿಗಳು ಈ ಸಾಧನವನ್ನು ಬ್ಯಾಂಕಿನ ಸಾಲದ ಬದಲಿಗೆ ಉಪಯೋಗಿಸುತ್ತಾರೆ ಮತ್ತು ಇದರ ಪಕ್ಕತೆಯ ಅವಧಿಯು 15 ದಿನಗಳಿಂದ ಒಂದು ವರ್ಷದ ವರೆಗೆ ಇರುತ್ತದೆ".

ಮೇಲೆ ಉಲ್ಲೇಖಿಸಿದ ಹಣದ ಮಾರುಕಟ್ಟೆ ಸಾಧನವನ್ನು ಗುರುತಿಸಿ.

1. ಕರೆ ಹಣ
2. ವಾಣಿಜ್ಯ ಪತ್ರಗಳು
3. ವಾಣಿಜ್ಯ ಹುಂಡಿಗಳು
4. ರೇವಣಿ ಪ್ರಮಾಣ ಪತ್ರ

Options :

485584145917. 1
485584145918. 2
485584145919. 3
485584145920. 4

Sub-Section Number : 3
Sub-Section Id : 4855842695
Question Shuffling Allowed : No
Is Section Default? : null

Question Number : 96 Question Id : 48558436481 Question Type : MCQ Option Shuffling : No Is Question Mandatory : No Calculator : None Response Time : N.A Think Time : N.A Minimum Instruction Time : 0 Correct Marks : 5 Wrong Marks : 1

Question Key Details :

Key	Value
Comprehension	Comp2

Safex Ltd is a company manufacturing masks. The newly appointed marketing manager of the firm has taken 'Covid Pandemic' as an opportunity to increase sales. He used a combination of tools to achieve its communication objective. He constituted 4 teams for designing these tools.

Team 1 :- The tool used by them was an impersonal form of communication which was paid for.

Team 2:- The tool used by them involves oral presentation of message in the form of conversation with one or more prospective customers for the purpose of making sales

Team 3:- This team used short-term incentives which were designed to encourage the buyers to make immediate purchase.

Team 4:- This team used a non-personal form of communication which was non-paid.

All the teams successfully designed their tools and achieved their desired results.

The variable of marketing mix discussed in the above case is _____

1. Product mix
2. Place mix
3. Price mix
4. Promotion mix

Options :

485584145921. 1
485584145922. 2
485584145923. 3
485584145924. 4

Question Number : 96 Question Id : 48558436481 Question Type : MCQ Option Shuffling : No Is Question Mandatory : No Calculator : None Response Time : N.A Think Time : N.A Minimum Instruction Time : 0

Correct Marks : 5 Wrong Marks : 1

Question Key Details :

Key	Value
Comprehension	Comp2

ಸೇಫೆಕ್ಸ್ ಲಿಮಿಟೆಡ್ ಕಂಪನಿಯು ಮಾಸ್ಕಗಳನ್ನು ಉತ್ಪಾದಿಸುತ್ತದೆ. ಹೊಸದಾಗಿ ನೇಮಕಗೊಂಡಿರುವ ಮಾರಾಟ ಪ್ರಕ್ರಿಯೆ ವ್ಯವಸ್ಥಾಪಕರು 'ಕೋವಿಡ್ ಸಾಂಕ್ರಮಿಕ' ಸಂದರ್ಭವನ್ನು ಸಂಸ್ಥೆಯ ಮಾರಾಟ ಹೆಚ್ಚಿಸುವ ಅವಕಾಶವಾಗಿ ಮಾಡಿಕೊಂಡಿದ್ದಾರೆ. ಅಧರ ಸಂವಹನ ಉದ್ದೇಶಗಳನ್ನು ಸಾಧಿಸಲು ಉಪಕರಣಗಳ ಸಂಯೋಜನೆಯನ್ನು ಉಪಯೋಗಿಸಿದನು. ಅವನು ಈ ಉಪಕರಣಗಳನ್ನು ವಿನ್ಯಾಸಗೊಳಿಸಲು ತಂಡಗಳನ್ನು ರಚಿಸಿದನು.

ತಂಡ 1: ಇವರು ಉಪಯೋಗಿಸಿದ ಸಾಧನ ವ್ಯಕ್ತಿಗತವಲ್ಲದ ಪಾವತಿಸುವ ಸಂವಹನದ ರೂಪ

ತಂಡ 2: ಇವರು ಒಂದು ಅಥವಾ ಹೆಚ್ಚಿನ ನಿರೀಕ್ಷಿತ ಗ್ರಾಹಕರೊಂದಿಗೆ ಸಂಭಾಷಣೆಯ ರೂಪದಲ್ಲಿ ಸಂದೇಶದ ಮೌಖಿಕ ಪ್ರಸ್ತುತಿ ಮಾಡುವ ಮತ್ತು ಮಾರಾಟ ಮಾಡುವ ಉದ್ದೇಶವಿರುವ ಉಪಯೋಗಿಸಿದರು.

ತಂಡ 3: ಇವರು ಖರೀದಿದಾರರನ್ನು ತಕ್ಷಣವೇ ಖರೀದಿಸಲು ಪ್ರೋತ್ಸಾಹಿಸಲು ವಿನ್ಯಾಸಗೊಳಿಸಲಾದ ಅಲ್ಪಾವಧಿಯ ಪ್ರೋತ್ಸಾಹವನ್ನು ನೀಡುವ ಸಾಧನವನ್ನು ಉಪಯೋಗಿಸಿದರು.

ತಂಡ 4: ಇವರು ವೈಯಕ್ತಿಕವಲ್ಲದ ಪಾವತಿಸದ ಸಂವಹನ ರೂಪದ ಸಾಧನವನ್ನು ಉಪಯೋಗಿಸಿದರು.

ತಂಡವು ತಮ್ಮ ಸಾಧನಗಳನ್ನು ಯಶಸ್ವಿಯಾಗಿ ವಿನ್ಯಾಸಗೊಳಿಸಿತು ಮತ್ತು ಅಪೇಕ್ಷಿತ ಫಲಿತಾಂಶಗಳನ್ನು ಸಾಧಿಸಿತು.

ಇಲ್ಲಿ _____ ಮಾರಾಟ ಪ್ರಕ್ರಿಯೆಯ ವೇರಿಯಬಲ್ ಬಗ್ಗೆ ಚರ್ಚಿಸಲಾಗಿದೆ.

1. ಉತ್ಪನ್ನ ಮಿಶ್ರಣ
2. ಸ್ಥಳ ಮಿಶ್ರಣ
3. ಬೆಲೆ ಮಿಶ್ರಣ
4. ಪ್ರವರ್ತನೆ ಮಿಶ್ರಣ

Options :

485584145921. 1
485584145922. 2

485584145923. 3

485584145924. 4

Question Number : 97 Question Id : 48558436482 Question Type : MCQ Option Shuffling : No Is Question Mandatory : No Calculator : None Response Time : N.A Think Time : N.A Minimum Instruction Time : 0

Correct Marks : 5 Wrong Marks : 1

Question Key Details :

Key	Value
Comprehension	Comp2

Safex Ltd is a company manufacturing masks. The newly appointed marketing manager of the firm has taken 'Covid Pandemic' as an opportunity to increase sales. He used a combination of tools to achieve its communication objective. He constituted 4 teams for designing these tools.

Team 1 :- The tool used by them was an impersonal form of communication which was paid for.

Team 2:- The tool used by them involves oral presentation of message in the form of conversation with one or more prospective customers for the purpose of making sales

Team 3:- This team used short-term incentives which were designed to encourage the buyers to make immediate purchase.

Team 4:- This team used a non-personal form of communication which was non-paid.

All the teams successfully designed their tools and achieved their desired results.

The tool used by Team 3 was _____

1. Public relations
2. Sales promotion
3. Publicity
4. Branding

Options :

485584145925. 1

485584145926. 2

485584145927. 3

485584145928. 4

Question Number : 97 Question Id : 48558436482 Question Type : MCQ Option Shuffling : No Is Question Mandatory : No Calculator : None Response Time : N.A Think Time : N.A Minimum Instruction Time : 0

Correct Marks : 5 Wrong Marks : 1

Question Key Details :

Key	Value
Comprehension	Comp2

ಸೇಫೆಕ್ಯ ಲಿಮಿಟೆಡ್ ಕಂಪನಿಯು ಮಾಸ್ಕಗಳನ್ನು ಉತ್ಪಾದಿಸುತ್ತದೆ. ಹೊಸದಾಗಿ ನೇಮಕಗೊಂಡಿರುವ ಮಾರಾಟ ಪ್ರಕ್ರಿಯೆ ವ್ಯವಸ್ಥಾಪಕರು 'ಕೋವಿಡ್ ಸಾಂಕ್ರಾಮಿಕ' ಸಂದರ್ಭವನ್ನು ಸಂಸ್ಥೆಯ ಮಾರಾಟ ಹೆಚ್ಚಿಸುವ ಅವಕಾಶವಾಗಿ ಮಾಡಿಕೊಂಡಿದ್ದಾರೆ. ಅಧರ ಸಂವಹನ ಉದ್ದೇಶಗಳನ್ನು ಸಾಧಿಸಲು ಉಪಕರಣಗಳ ಸಂಯೋಜನೆಯನ್ನು ಉಪಯೋಗಿಸಿದನು. ಅವನು ಈ ಉಪಕರಣಗಳನ್ನು ವಿನ್ಯಾಸಗೊಳಿಸಲು ತಂಡಗಳನ್ನು ರಚಿಸಿದನು.

ತಂಡ 1: ಇವರು ಉಪಯೋಗಿಸಿದ ಸಾಧನ ವ್ಯಕ್ತಿಗತವಲ್ಲದ ಪಾವತಿಸುವ ಸಂವಹನದ ರೂಪ

ತಂಡ 2: ಇವರು ಒಂದು ಅಥವಾ ಹೆಚ್ಚಿನ ನಿರೀಕ್ಷಿತ ಗ್ರಾಹಕರೊಂದಿಗೆ ಸಂಭಾಷಣೆಯ ರೂಪದಲ್ಲಿ ಸಂದೇಶದ ಮೌಖಿಕ ಪ್ರಸ್ತುತಿ ಮಾಡುವ ಮತ್ತು ಮಾರಾಟ ಮಾಡುವ ಉದ್ದೇಶವಿರುವ ಉಪಯೋಗಿಸಿದರು.

ತಂಡ 3: ಇವರು ಖರೀದಿದಾರರನ್ನು ತಕ್ಷಣವೇ ಖರೀದಿಸಲು ಪ್ರೋತ್ಸಾಹಿಸಲು ವಿನ್ಯಾಸಗೊಳಿಸಲಾದ ಅಲ್ಪಾವಧಿಯ ಪ್ರೋತ್ಸಾಹವನ್ನು ನೀಡುವ ಸಾಧನವನ್ನು ಉಪಯೋಗಿಸಿದರು.

ತಂಡ 4: ಇವರು ವೈಯಕ್ತಿಕವಲ್ಲದ ಪಾವತಿಸದ ಸಂವಹನ ರೂಪದ ಸಾಧನವನ್ನು ಉಪಯೋಗಿಸಿದರು.

ತಂಡವು ತಮ್ಮ ಸಾಧನಗಳನ್ನು ಯಶಸ್ವಿಯಾಗಿ ವಿನ್ಯಾಸಗೊಳಿಸಿತು ಮತ್ತು ಅಪೇಕ್ಷಿತ ಫಲಿತಾಂಶಗಳನ್ನು ಸಾಧಿಸಿತು.

ತಂಡ - 3 ಉಪಯೋಗಿಸಿರುವ ಸಾಧನ _____.

1. ಸಾರ್ವಜನಿಕ ಸಂಬಂಧಗಳು
2. ಮಾರಾಟ ಪ್ರವರ್ತನೆ
3. ಪ್ರಚಾರ
4. ಮುದ್ರೆ ಹಾಕುವಿಕೆ

Options :

485584145925. 1
485584145926. 2
485584145927. 3
485584145928. 4

Question Number : 98 Question Id : 48558436483 Question Type : MCQ Option Shuffling : No Is Question Mandatory : No Calculator : None Response Time : N.A Think Time : N.A Minimum Instruction Time : 0

Correct Marks : 5 Wrong Marks : 1

Question Key Details :

Key	Value
Comprehension	Comp2

Safex Ltd is a company manufacturing masks. The newly appointed marketing manager of the firm has taken 'Covid Pandemic' as an opportunity to increase sales. He used a combination of tools to achieve its communication objective. He constituted 4 teams for designing these tools.

Team 1 :- The tool used by them was an impersonal form of communication which was paid for.

Team 2:- The tool used by them involves oral presentation of message in the form of conversation with one or more prospective customers for the purpose of making sales

Team 3:- This team used short-term incentives which were designed to encourage the buyers to make immediate purchase.

Team 4:- This team used a non-personal form of communication which was non-paid.

All the teams successfully designed their tools and achieved their desired results.

The tool used by Team 4 is _____

1. Packaging
2. Advertising
3. Publicity
4. Sales promotion

Options :

- 485584145929. 1
- 485584145930. 2
- 485584145931. 3
- 485584145932. 4

Question Number : 98 Question Id : 48558436483 Question Type : MCQ Option Shuffling : No Is Question Mandatory : No Calculator : None Response Time : N.A Think Time : N.A Minimum Instruction Time : 0

Correct Marks : 5 Wrong Marks : 1

Question Key Details :

Key	Value
Comprehension	Comp2

ಸೇಫೆಕ್ಸ್ ಲಿಮಿಟೆಡ್ ಕಂಪನಿಯು ಮಾಸ್ಕುಗಳನ್ನು ಉತ್ಪಾದಿಸುತ್ತದೆ. ಹೊಸದಾಗಿ ನೇಮಕಗೊಂಡಿರುವ ಮಾರಾಟ ಪ್ರಕ್ರಿಯೆ ವ್ಯವಸ್ಥಾಪಕರು 'ಕೋವಿಡ್ ಸಾಂಕ್ರಾಮಿಕ' ಸಂದರ್ಭವನ್ನು ಸಂಸ್ಥೆಯ ಮಾರಾಟ ಹೆಚ್ಚಿಸುವ ಅವಕಾಶವಾಗಿ ಮಾಡಿಕೊಂಡಿದ್ದಾರೆ. ಅಧರ ಸಂವಹನ ಉದ್ದೇಶಗಳನ್ನು ಸಾಧಿಸಲು ಉಪಕರಣಗಳ ಸಂಯೋಜನೆಯನ್ನು ಉಪಯೋಗಿಸಿದನು. ಅವನು ಈ ಉಪಕರಣಗಳನ್ನು ವಿನ್ಯಾಸಗೊಳಿಸಲು ತಂಡಗಳನ್ನು ರಚಿಸಿದನು.

ತಂಡ 1: ಇವರು ಉಪಯೋಗಿಸಿದ ಸಾಧನ ವ್ಯಕ್ತಿಗತವಲ್ಲದ ಪಾವತಿಸುವ ಸಂವಹನದ ರೂಪ

ತಂಡ 2: ಇವರು ಒಂದು ಅಥವಾ ಹೆಚ್ಚಿನ ನಿರೀಕ್ಷಿತ ಗ್ರಾಹಕರೊಂದಿಗೆ ಸಂಭಾಷಣೆಯ ರೂಪದಲ್ಲಿ ಸಂದೇಶದ ಮೌಖಿಕ ಪ್ರಸ್ತುತಿ ಮಾಡುವ ಮತ್ತು ಮಾರಾಟ ಮಾಡುವ ಉದ್ದೇಶವಿರುವ ಉಪಯೋಗಿಸಿದರು.

ತಂಡ 3: ಇವರು ಖರೀದಿದಾರರನ್ನು ತಕ್ಷಣವೇ ಖರೀದಿಸಲು ಪ್ರೋತ್ಸಾಹಿಸಲು ವಿನ್ಯಾಸಗೊಳಿಸಲಾದ ಅಲ್ಪಾವಧಿಯ ಪ್ರೋತ್ಸಾಹವನ್ನು ನೀಡುವ ಸಾಧನವನ್ನು ಉಪಯೋಗಿಸಿದರು.

ತಂಡ 4: ಇವರು ವೈಯಕ್ತಿಕವಲ್ಲದ ಪಾವತಿಸದ ಸಂವಹನ ರೂಪದ ಸಾಧನವನ್ನು ಉಪಯೋಗಿಸಿದರು.

ತಂಡವು ತಮ್ಮ ಸಾಧನಗಳನ್ನು ಯಶಸ್ವಿಯಾಗಿ ವಿನ್ಯಾಸಗೊಳಿಸಿತು ಮತ್ತು ಅಪೇಕ್ಷಿತ ಫಲಿತಾಂಶಗಳನ್ನು ಸಾಧಿಸಿತು.

ತಂಡ ಉಪಯೋಗಿಸಿರುವ ಸಾಧನ _____.

1. ಸಂವೇಷಿಸುವಿಕೆ
2. ಜಾಹೀರಾತು
3. ಪ್ರಚಾರ
4. ಮಾರಾಟ ಪ್ರವರ್ತನೆ

Options :

485584145929. 1
485584145930. 2
485584145931. 3
485584145932. 4

Question Number : 99 Question Id : 48558436484 Question Type : MCQ Option Shuffling : No Is Question Mandatory : No Calculator : None Response Time : N.A Think Time : N.A Minimum Instruction Time : 0

Correct Marks : 5 Wrong Marks : 1

Question Key Details :

Key	Value
Comprehension	Comp2

Safex Ltd is a company manufacturing masks. The newly appointed marketing manager of the firm has taken 'Covid Pandemic' as an opportunity to increase sales. He used a combination of tools to achieve its communication objective. He constituted 4 teams for designing these tools.

Team 1 :- The tool used by them was an impersonal form of communication which was paid for.

Team 2:- The tool used by them involves oral presentation of message in the form of conversation with one or more prospective customers for the purpose of making sales

Team 3:- This team used short-term incentives which were designed to encourage the buyers to make immediate purchase.

Team 4:- This team used a non-personal form of communication which was non-paid.

All the teams successfully designed their tools and achieved their desired results.

The tool used by Team 1 is _____

1. Advertising
2. Public relations
3. Publicity
4. Personal selling

Options :

- 485584145933. 1
- 485584145934. 2
- 485584145935. 3
- 485584145936. 4

Question Number : 99 Question Id : 48558436484 Question Type : MCQ Option Shuffling : No Is Question Mandatory : No Calculator : None Response Time : N.A Think Time : N.A Minimum Instruction Time : 0

Correct Marks : 5 Wrong Marks : 1

Question Key Details :

Key	Value
Comprehension	Comp2

ಸೇಫೆಕ್ಸ್ ಲಿಮಿಟೆಡ್ ಕಂಪನಿಯು ಮಾಸ್ಕಗಳನ್ನು ಉತ್ಪಾದಿಸುತ್ತದೆ. ಹೊಸದಾಗಿ ನೇಮಕಗೊಂಡಿರುವ ಮಾರಾಟ ಪ್ರಕ್ರಿಯೆ ವ್ಯವಸ್ಥಾಪಕರು 'ಕೋವಿಡ್ ಸಾಂಕ್ರಾಮಿಕ' ಸಂದರ್ಭವನ್ನು ಸಂಸ್ಥೆಯ ಮಾರಾಟ ಹೆಚ್ಚಿಸುವ ಅವಕಾಶವಾಗಿ ಮಾಡಿಕೊಂಡಿದ್ದಾರೆ. ಅಧರ ಸಂವಹನ ಉದ್ದೇಶಗಳನ್ನು ಸಾಧಿಸಲು ಉಪಕರಣಗಳ ಸಂಯೋಜನೆಯನ್ನು ಉಪಯೋಗಿಸಿದನು. ಅವನು ಈ ಉಪಕರಣಗಳನ್ನು ವಿನ್ಯಾಸಗೊಳಿಸಲು ತಂಡಗಳನ್ನು ರಚಿಸಿದನು.

ತಂಡ 1: ಇವರು ಉಪಯೋಗಿಸಿದ ಸಾಧನ ವ್ಯಕ್ತಿಗತವಲ್ಲದ ಪಾವತಿಸುವ ಸಂವಹನದ ರೂಪ

ತಂಡ 2: ಇವರು ಒಂದು ಅಥವಾ ಹೆಚ್ಚಿನ ನಿರೀಕ್ಷಿತ ಗ್ರಾಹಕರೊಂದಿಗೆ ಸಂಭಾಷಣೆಯ ರೂಪದಲ್ಲಿ ಸಂದೇಶದ ಮೌಖಿಕ ಪ್ರಸ್ತುತಿ ಮಾಡುವ ಮತ್ತು ಮಾರಾಟ ಮಾಡುವ ಉದ್ದೇಶವಿರುವ ಉಪಯೋಗಿಸಿದರು.

ತಂಡ 3: ಇವರು ಖರೀದಿದಾರರನ್ನು ತಕ್ಷಣವೇ ಖರೀದಿಸಲು ಪ್ರೋತ್ಸಾಹಿಸಲು ವಿನ್ಯಾಸಗೊಳಿಸಲಾದ ಅಲ್ಪಾವಧಿಯ ಪ್ರೋತ್ಸಾಹವನ್ನು ನೀಡುವ ಸಾಧನವನ್ನು ಉಪಯೋಗಿಸಿದರು.

ತಂಡ 4: ಇವರು ವೈಯಕ್ತಿಕವಲ್ಲದ ಪಾವತಿಸದ ಸಂವಹನ ರೂಪದ ಸಾಧನವನ್ನು ಉಪಯೋಗಿಸಿದರು.

ತಂಡವು ತಮ್ಮ ಸಾಧನಗಳನ್ನು ಯಶಸ್ವಿಯಾಗಿ ವಿನ್ಯಾಸಗೊಳಿಸಿತು ಮತ್ತು ಅಪೇಕ್ಷಿತ ಫಲಿತಾಂಶಗಳನ್ನು ಸಾಧಿಸಿತು.

ತಂಡ -1 ಉಪಯೋಗಿಸಿರುವ ಸಾಧನ _____.

1. ಜಾಹೀರಾತು
2. ಸಾರ್ವಜನಿಕ ಸಂಬಂಧಗಳು
3. ಪ್ರಚಾರ
4. ವೈಯಕ್ತಿಕ ಮಾರಾಟ

Options :

485584145933. 1
485584145934. 2
485584145935. 3
485584145936. 4

Question Number : 100 Question Id : 48558436485 Question Type : MCQ Option Shuffling : No Is Question Mandatory : No Calculator : None Response Time : N.A Think Time : N.A Minimum Instruction Time : 0

Correct Marks : 5 Wrong Marks : 1

Question Key Details :

Key	Value
Comprehension	Comp2

Safex Ltd is a company manufacturing masks. The newly appointed marketing manager of the firm has taken 'Covid Pandemic' as an opportunity to increase sales. He used a combination of tools to achieve its communication objective. He constituted 4 teams for designing these tools.

Team 1 :- The tool used by them was an impersonal form of communication which was paid for.

Team 2:- The tool used by them involves oral presentation of message in the form of conversation with one or more prospective customers for the purpose of making sales

Team 3:- This team used short-term incentives which were designed to encourage the buyers to make immediate purchase.

Team 4:- This team used a non-personal form of communication which was non-paid.

All the teams successfully designed their tools and achieved their desired results.

The tool used by Team 2 is _____

1. Public relations
2. Personal selling
3. Advertising
4. Publicity

Options :

- 485584145937. 1
- 485584145938. 2
- 485584145939. 3
- 485584145940. 4

Question Number : 100 Question Id : 48558436485 Question Type : MCQ Option Shuffling : No Is Question Mandatory : No Calculator : None Response Time : N.A Think Time : N.A Minimum Instruction Time : 0

Correct Marks : 5 Wrong Marks : 1

Question Key Details :

Key	Value
Comprehension	Comp2

ಸೇಫೆಕ್ಯ ಲಿಮಿಟೆಡ್ ಕಂಪನಿಯು ಮಾಸ್ಕಗಳನ್ನು ಉತ್ಪಾದಿಸುತ್ತದೆ. ಹೊಸದಾಗಿ ನೇಮಕಗೊಂಡಿರುವ ಮಾರಾಟ ಪ್ರಕ್ರಿಯೆ ವ್ಯವಸ್ಥಾಪಕರು 'ಕೋವಿಡ್ ಸಾಂಕ್ರಾಮಿಕ' ಸಂದರ್ಭವನ್ನು ಸಂಸ್ಥೆಯ ಮಾರಾಟ ಹೆಚ್ಚಿಸುವ ಅವಕಾಶವಾಗಿ ಮಾಡಿಕೊಂಡಿದ್ದಾರೆ. ಅಧರ ಸಂವಹನ ಉದ್ದೇಶಗಳನ್ನು ಸಾಧಿಸಲು ಉಪಕರಣಗಳ ಸಂಯೋಜನೆಯನ್ನು ಉಪಯೋಗಿಸಿದನು. ಅವನು ಈ ಉಪಕರಣಗಳನ್ನು ವಿನ್ಯಾಸಗೊಳಿಸಲು ತಂಡಗಳನ್ನು ರಚಿಸಿದನು.

ತಂಡ 1: ಇವರು ಉಪಯೋಗಿಸಿದ ಸಾಧನ ವ್ಯಕ್ತಿಗತವಲ್ಲದ ಪಾವತಿಸುವ ಸಂವಹನದ ರೂಪ

ತಂಡ 2: ಇವರು ಒಂದು ಅಥವಾ ಹೆಚ್ಚಿನ ನಿರೀಕ್ಷಿತ ಗ್ರಾಹಕರೊಂದಿಗೆ ಸಂಭಾಷಣೆಯ ರೂಪದಲ್ಲಿ ಸಂದೇಶದ ಮೌಖಿಕ ಪ್ರಸ್ತುತಿ ಮಾಡುವ ಮತ್ತು ಮಾರಾಟ ಮಾಡುವ ಉದ್ದೇಶವಿರುವ ಉಪಯೋಗಿಸಿದರು.

ತಂಡ 3: ಇವರು ಖರೀದಿದಾರರನ್ನು ತಕ್ಷಣವೇ ಖರೀದಿಸಲು ಪ್ರೋತ್ಸಾಹಿಸಲು ವಿನ್ಯಾಸಗೊಳಿಸಲಾದ ಅಲ್ಪಾವಧಿಯ ಪ್ರೋತ್ಸಾಹವನ್ನು ನೀಡುವ ಸಾಧನವನ್ನು ಉಪಯೋಗಿಸಿದರು.

ತಂಡ 4: ಇವರು ವೈಯಕ್ತಿಕವಲ್ಲದ ಪಾವತಿಸದ ಸಂವಹನ ರೂಪದ ಸಾಧನವನ್ನು ಉಪಯೋಗಿಸಿದರು.

ತಂಡವು ತಮ್ಮ ಸಾಧನಗಳನ್ನು ಯಶಸ್ವಿಯಾಗಿ ವಿನ್ಯಾಸಗೊಳಿಸಿತು ಮತ್ತು ಅಪೇಕ್ಷಿತ ಫಲಿತಾಂಶಗಳನ್ನು ಸಾಧಿಸಿತು.

ತಂಡ - 2 ಉಪಯೋಗಿಸಿರುವ ಸಾಧನ _____

1. ಸಾರ್ವಜನಿಕ ಸಂಬಂಧಗಳು
2. ವೈಯಕ್ತಿಕ ಮಾರಾಟ
3. ಜಾಹೀರಾತು
4. ಪ್ರಚಾರ

Options :

485584145937. 1
485584145938. 2
485584145939. 3
485584145940. 4

History

Group Number :	4
Group Id :	485584824
Group Maximum Duration :	45
Group Minimum Duration :	45
Show Attended Group? :	No
Edit Attended Group? :	No
Break time :	0
Group Marks :	200
Is this Group for Examiner? :	No
Examiner permission :	Cant View
Show Progress Bar? :	No

History

Section Id :	485584948
Section Number :	1

Section type :	Online
Mandatory or Optional :	Mandatory
Number of Questions :	50
Number of Questions to be attempted :	40
Section Marks :	200
Enable Mark as Answered Mark for Review and Clear Response :	Yes
Maximum Instruction Time :	0
Sub-Section Number :	1
Sub-Section Id :	4855842696
Question Shuffling Allowed :	Yes
Is Section Default? :	null

Question Number : 101 Question Id : 48558436486 Question Type : MCQ Option Shuffling : No Is Question Mandatory : No Calculator : None Response Time : N.A Think Time : N.A Minimum Instruction Time : 0

Correct Marks : 5 Wrong Marks : 1

Question Key Details :

Key	Value
Comprehension	MCQ

Who made the following statement: "Marshall left India three thousand years older than he had found her."

1. Daya Ram Sahni
2. Rakhai Das Banerji
3. R.E. M. Wheeler
4. S.N. Roy

Options :

485584145941. 1
485584145942. 2
485584145943. 3
485584145944. 4

Question Number : 101 Question Id : 48558436486 Question Type : MCQ Option Shuffling : No Is Question Mandatory : No Calculator : None Response Time : N.A Think Time : N.A Minimum Instruction Time : 0

Correct Marks : 5 Wrong Marks : 1

Question Key Details :

Key	Value
Comprehension	MCQ

ಈ ಕೆಳಗಿನ ಹೇಳಿಕೆಯನ್ನು ನೀಡಿದವರು ಯಾರು? "ಮಾರ್ಷಲ್ ಅವರು ಭಾರತವನ್ನು ತಾನು ಕಂಡುಕೊಂಡಿದ್ದಕ್ಕಿಂತ ಮೂರು ಸಾವಿರ ವರ್ಷಗಳಷ್ಟು ಹಳೆಯದನ್ನಾಗಿ ತೋರಿದರು."

1. ದಯಾ ರಾಮ್ ಸಹನಿ
2. ರಖಲ ದಾಸ್ ಬಾನರ್ಜಿ
3. ಆರ್.ಇ.ಎಂ. ವ್ಹೀಲರ್
4. ಎಸ್.ಎನ್. ರಾಯ್

Options :

- 485584145941. 1
- 485584145942. 2
- 485584145943. 3
- 485584145944. 4

Question Number : 102 Question Id : 48558436487 Question Type : MCQ Option Shuffling : No Is Question Mandatory : No Calculator : None Response Time : N.A Think Time : N.A Minimum Instruction Time : 0

Correct Marks : 5 Wrong Marks : 1

Question Key Details :

Key	Value
Comprehension	MCQ

Archaeological study of a mound can provide cultural sequence for a site. Study of such layers is called

- 1. Ethnography
- 2. Stratigraphy
- 3. Epigraphy
- 4. Sociography

Options :

- 485584145945. 1
- 485584145946. 2
- 485584145947. 3
- 485584145948. 4

Question Number : 102 Question Id : 48558436487 Question Type : MCQ Option Shuffling : No Is Question Mandatory : No Calculator : None Response Time : N.A Think Time : N.A Minimum Instruction Time : 0

Correct Marks : 5 Wrong Marks : 1

Question Key Details :

Key	Value
Comprehension	MCQ

ಒಂದು ದಿಬ್ಬದ ಪುರಾತತ್ವ ಶಾಸ್ತ್ರದ ಅಧ್ಯಯನವು ಒಂದು ಸೈಟ್‌ಗೆ ಸಾಂಸ್ಕೃತಿಕ ಅನುಕ್ರಮಗಳನ್ನು ಒದಗಿಸುತ್ತದೆ. ಅಂತಹ ಪದರಗಳ ಅಧ್ಯಯನವನ್ನು ಹೀಗೆಂದು ಕರೆಯಲಾಗುತ್ತದೆ:

- 1. ಎಥನೋಗ್ರಫಿ
- 2. ಸ್ಟ್ರಾಟಿಗ್ರಫಿ
- 3. ಎಪಿಗ್ರಫಿ
- 4. ಸೋಸಿಯೋಗ್ರಫಿ

Options :

- 485584145945. 1
- 485584145946. 2
- 485584145947. 3
- 485584145948. 4

Question Number : 103 Question Id : 48558436488 Question Type : MCQ Option Shuffling : No Is Question Mandatory : No Calculator : None Response Time : N.A Think Time : N.A Minimum Instruction Time : 0
Correct Marks : 5 Wrong Marks : 1

Question Key Details :

Key	Value
Comprehension	MCQ

Which of the following Harappan sites were located near the coast?

1. Banawali and Rakugarihi
2. Nageshwar and Balakot
3. Ganweriwala and Mitathal
4. Kot-Diji and Kalibangan

Options :

485584145949. 1
485584145950. 2
485584145951. 3
485584145952. 4

Question Number : 103 Question Id : 48558436488 Question Type : MCQ Option Shuffling : No Is Question Mandatory : No Calculator : None Response Time : N.A Think Time : N.A Minimum Instruction Time : 0

Correct Marks : 5 Wrong Marks : 1

Question Key Details :

Key	Value
Comprehension	MCQ

ಕೆಳಗಿನ ಯಾವ ಹರಪ್ಪಾ ತಾಣಗಳು ಕರಾವಳಿಯ ಸಮೀಪದಲ್ಲಿವೆ?

1. ಬಾನಾವಲಿ ಮತ್ತು ರಾಖಿಗರ್ಹಿ
2. ನಾಗೇಶ್ವರ್ ಮತ್ತು ಬಾಲಾಕೋಟ್
3. ಗನ್ವೇರಿವಾಲಾ ಮತ್ತು ಮಿತ್ಥಾಲ್
4. ಕೋಟ್-ಡಿಜಿ ಮತ್ತು ಕಲಿಬಂಗನ್

Options :

485584145949. 1
485584145950. 2
485584145951. 3
485584145952. 4

Question Number : 104 Question Id : 48558436489 Question Type : MCQ Option Shuffling : No Is Question Mandatory : No Calculator : None Response Time : N.A Think Time : N.A Minimum Instruction Time : 0

Correct Marks : 5 Wrong Marks : 1

Question Key Details :

Key	Value
Comprehension	MCQ

Who among the following is often held as the 'Father of Indian Archaeology'?

1. John Marshall
2. Alexander Cunningham
3. James Prinsep
4. R.E.M. Wheeler

Options :

485584145953. 1
485584145954. 2
485584145955. 3
485584145956. 4

Question Number : 104 Question Id : 48558436489 Question Type : MCQ Option Shuffling : No Is Question Mandatory : No Calculator : None Response Time : N.A Think Time : N.A Minimum Instruction Time : 0

Correct Marks : 5 Wrong Marks : 1

Question Key Details :

Key	Value
Comprehension	MCQ

ಕೆಳಗಿನವರಲ್ಲಿ ಭಾರತೀಯ ಪುರಾತತ್ವ ಶಾಸ್ತ್ರದ ಪಿತಾಮಹ ಎಂದು ಯಾರನ್ನು ಪರಿಗಣಿಸಲಾಗಿದೆ?

1. ಜಾನ್ ಮಾರ್ಷಲ್
2. ಅಲೆಕ್ಸಾಂಡರ್ ಕನ್ಸಿಂಗ್ಹ್ಯಾಂ
3. ಜೇಮ್ಸ್ ಪ್ರಿನ್ಸೆಪ್
4. ಆರ್.ಇ.ಎಂ. ವ್ಹೀಲರ್

Options :

485584145953. 1
485584145954. 2
485584145955. 3
485584145956. 4

Question Number : 105 Question Id : 48558436490 Question Type : MCQ Option Shuffling : No Is Question Mandatory : No Calculator : None Response Time : N.A Think Time : N.A Minimum Instruction Time : 0

Correct Marks : 5 Wrong Marks : 1

Question Key Details :

Key	Value
Comprehension	MCQ

Traces of canals have been found at the Harappan site of Shortughai, which is located in _____.

1. Punjab
2. Sind
3. Afghanistan
4. Gujarat

Options :

485584145957. 1
485584145958. 2
485584145959. 3
485584145960. 4

Question Number : 105 Question Id : 48558436490 Question Type : MCQ Option Shuffling : No Is Question Mandatory : No Calculator : None Response Time : N.A Think Time : N.A Minimum Instruction Time : 0

Correct Marks : 5 Wrong Marks : 1

Question Key Details :

Key	Value
Comprehension	MCQ

ಶಾರ್ಫೈ ಹರಪ್ಪಾ ಸ್ಥಳದಲ್ಲಿ ಕಾಲುವೆಗಳ ಕುರುಹುಗಳು ಕಂಡುಬಂದಿವೆ. ಇವುಗಳು ನೆಲೆಗೊಂಡಿರುವುದು:

1. ಪಂಜಾಬ್
2. ಸಿಂಧ್
3. ಅಫಘಾನಿಸ್ತಾನ್
4. ಗುಜರಾತ್

Options :

485584145957. 1
485584145958. 2
485584145959. 3
485584145960. 4

Question Number : 106 Question Id : 48558436491 Question Type : MCQ Option Shuffling : No Is Question Mandatory : No Calculator : None Response Time : N.A Think Time : N.A Minimum Instruction Time : 0

Correct Marks : 5 Wrong Marks : 1

Question Key Details :

Key	Value
Comprehension	MCQ

In ancient India, the first coins to bear the names and images of the rulers were issued by the _____.

1. Indo-Greeks
2. Kushans
3. Parthians
4. Shakas

Options :

485584145961. 1
485584145962. 2
485584145963. 3
485584145964. 4

Question Number : 106 Question Id : 48558436491 Question Type : MCQ Option Shuffling : No Is Question Mandatory : No Calculator : None Response Time : N.A Think Time : N.A Minimum Instruction Time : 0

Correct Marks : 5 Wrong Marks : 1

Question Key Details :

Key	Value
Comprehension	MCQ

ಪ್ರಾಚೀನ ಭಾರತದಲ್ಲಿ ಆಡಳಿತಗಾರರ ಹೆಸರುಗಳು ಮತ್ತು ಚಿತ್ರಗಳನ್ನು ಹೊಂದಿರುವ ಮೊದಲ ನಾಣ್ಯಗಳನ್ನು ಬಿಡುಗಡೆ ಮಾಡಿದವರು _____.

1. ಇಂಡೋ-ಗ್ರೀಕರು
2. ಕುಶಾನರು
3. ಪಾರ್ಥಿಯನ್ನರು
4. ಶಕರು

Options :

485584145961. 1
485584145962. 2
485584145963. 3
485584145964. 4

Question Number : 107 Question Id : 48558436492 Question Type : MCQ Option Shuffling : No Is Question Mandatory : No Calculator : None Response Time : N.A Think Time : N.A Minimum Instruction Time : 0

Correct Marks : 5 Wrong Marks : 1

Question Key Details :

Key	Value
Comprehension	MCQ

Which place are you visiting if you come across the lion capital built by Asoka?

1. Varanasi
2. Delhi
3. Sarnath
4. Ujjayini

Options :

485584145965. 1
485584145966. 2
485584145967. 3
485584145968. 4

Question Number : 107 Question Id : 48558436492 Question Type : MCQ Option Shuffling : No Is Question Mandatory : No Calculator : None Response Time : N.A Think Time : N.A Minimum Instruction Time : 0

Correct Marks : 5 Wrong Marks : 1

Question Key Details :

Key	Value
Comprehension	MCQ

ಅಶೋಕನು ನಿರ್ಮಿಸಿದ ಸಿಂಹದ ರಾಜಧಾನಿಯನ್ನು ನೀವು ಕಂಡರೆ ಯಾವ ಸ್ಥಳಕ್ಕೆ ಭೇಟಿ ನೀಡುತ್ತೀರಿ?

1. ವಾರಣಾಸಿ
2. ದೆಹಲಿ
3. ಸಾರನಾಥ
4. ಉಜ್ಜಯಿನಿ

Options :

485584145965. 1
485584145966. 2
485584145967. 3
485584145968. 4

Question Number : 108 Question Id : 48558436493 Question Type : MCQ Option Shuffling : No Is Question Mandatory : No Calculator : None Response Time : N.A Think Time : N.A Minimum Instruction Time : 0

Correct Marks : 5 Wrong Marks : 1

Question Key Details :

Key	Value
Comprehension	MCQ

Prabhavati Gupta was the daughter of _____.

1. Chandragupta II
2. Samudragupta
3. Chandragupta Maurya
4. Skandgupta

Options :

485584145969. 1
485584145970. 2
485584145971. 3
485584145972. 4

Question Number : 108 Question Id : 48558436493 Question Type : MCQ Option Shuffling : No Is Question Mandatory : No Calculator : None Response Time : N.A Think Time : N.A Minimum Instruction Time : 0

Correct Marks : 5 Wrong Marks : 1

Question Key Details :

Key	Value
Comprehension	MCQ

ಪ್ರಭಾವತಿ ಗುಪ್ತಾ _____ ರ ಮಗಳು:

1. ಚಂದ್ರಗುಪ್ತ II
2. ಸಮುದ್ರಗುಪ್ತ
3. ಚಂದ್ರಗುಪ್ತ ಮೌರ್ಯ
4. ಸ್ಕಂದಗುಪ್ತ

Options :

485584145969. 1
485584145970. 2
485584145971. 3
485584145972. 4

Question Number : 109 Question Id : 48558436494 Question Type : MCQ Option Shuffling : No Is Question Mandatory : No Calculator : None Response Time : N.A Think Time : N.A Minimum Instruction Time : 0

Correct Marks : 5 Wrong Marks : 1

Question Key Details :

Key	Value
Comprehension	MCQ

Which of the following statements are **correct**?

- A. The Dharmasutras and Dharmashastras recognised as many as twelve forms of marriages.
- B. People were classified into gotras and each gotra was named after a Vedic seer.
- C. Jatis, which shared a common occupation, were sometimes organised into shrenis or guilds.
- D. Women were allowed to retain the gifts they received on their marriage as 'Stridhana' to be inherited by their children.
- E. Matriliney is the term used when descent is traced through the mother.

Choose the **correct** answer from the options given below:

- 1. A, B, C, E only
- 2. A, C, D, E only
- 3. B, C, D, E only
- 4. A, B, D, E only

Options :

- 485584145973. 1
- 485584145974. 2
- 485584145975. 3
- 485584145976. 4

Question Number : 109 Question Id : 48558436494 Question Type : MCQ Option Shuffling : No Is Question Mandatory : No Calculator : None Response Time : N.A Think Time : N.A Minimum Instruction Time : 0

Correct Marks : 5 Wrong Marks : 1

Question Key Details :

Key	Value
Comprehension	MCQ

ಈ ಕೆಳಗಿನ ಯಾವ ಹೇಳಿಕೆಗಳು ಸರಿಯಾಗಿವೆ?

- A. ಧರ್ಮಸೂತ್ರಗಳು ಮತ್ತು ಧರ್ಮಶಾಸ್ತ್ರಗಳು ಹನ್ನೆರಡು ರೀತಿಯ ವಿವಾಹಗಳನ್ನು ಗುರುತಿಸಿವೆ.
- B. ಜನರನ್ನು ಗೋತ್ರಗಳಾಗಿ ವರ್ಗೀಕರಿಸಲಾಯಿತು ಮತ್ತು ಪ್ರತಿ ಗೋತ್ರಕ್ಕೂ ವೈದಿಕ ದರ್ಶಕನ ಹೆಸರನ್ನು ಇಡಲಾಯಿತು.
- C. ಸಾಮಾನ್ಯ ಉದ್ಯೋಗವನ್ನು ಹಂಚಿಕೊಂಡ ಜಾತಿಗಳು ಕಲವೊಮ್ಮೆ ಶ್ರೇಣಿಗಳು ಅಥವಾ ಗಿಲ್ಲಗಳಾಗಿ ಸಂಘಟಿಸಲ್ಪಟ್ಟವು.
- D. ಮಹಿಳೆಯರು ತಮ್ಮ ಮದುವೆಯಲ್ಲಿ ಪಂಡಿತ ಉಡುಗೊರೆಗಳನ್ನು ತಮ್ಮ ಮಕ್ಕಳಿಗೆ ಅನುವಂಶಿಕವಾಗಿ "ಸ್ತ್ರೀಧನ"ವಾಗಿ ನೀಡಲು ಅನುಮತಿಸಲಾಯಿತು.
- E. ಮ್ಯಾಟ್ರಿಲಿನಿ ಎಂಬುದು ತಾಯಿಯ ಮೂಲಕ ಅವರೋಹಣವನ್ನು ಪತ್ತೆಹಚ್ಚಿದಾಗ ಬಳಸಲಾಗುವ ಪದವಾಗಿದೆ.

ಈ ಕೆಳಗಿನ ಆಯ್ಕೆಗಳಿಂದ ಸರಿಯಾದ ಉತ್ತರವನ್ನು ಆರಿಸಿ:

- 1. A, B, C, E ಮಾತ್ರ
- 2. A, C, D, E ಮಾತ್ರ
- 3. B, C, D, E ಮಾತ್ರ
- 4. A, B, D, E ಮಾತ್ರ

Options :

- 485584145973. 1
- 485584145974. 2
- 485584145975. 3
- 485584145976. 4

Question Number : 110 Question Id : 48558436495 Question Type : MCQ Option Shuffling : No Is Question Mandatory : No Calculator : None Response Time : N.A Think Time : N.A Minimum Instruction Time : 0

Correct Marks : 5 Wrong Marks : 1

Question Key Details :

Key	Value
Comprehension	MCQ

What did Ibn Battuta observe when he visited the city of Delhi?

- A. Its beautiful temple architecture in every part of the city.
- B. Its fine cemetery with domes and arches.
- C. Its imposing stupas in the heart of the city.
- D. Its twenty-eight big darwazas.
- E. Its many waterfalls within the city.

Choose the correct answer from the options given below:

- 1. A, B only
- 2. C, D only
- 3. B, D only
- 4. D, E only

Options :

- 485584145977. 1
- 485584145978. 2
- 485584145979. 3
- 485584145980. 4

Question Number : 110 Question Id : 48558436495 Question Type : MCQ Option Shuffling : No Is Question Mandatory : No Calculator : None Response Time : N.A Think Time : N.A Minimum Instruction Time : 0

Correct Marks : 5 Wrong Marks : 1

Question Key Details :

Key	Value
Comprehension	MCQ

ಇಬ್ನ್ ಬಟ್ಟುಟಾ ಅವರು ದೆಹಲಿ ನಗರಕ್ಕೆ ಭೇಟಿ ನೀಡಿದಾಗ ಏನನ್ನು ಗಮನಿಸಿದರು?

- A. ನಗರದ ಪ್ರತಿಯೊಂದು ಭಾಗದಲ್ಲೂ ಅದರ ಸುಂದರವಾದ ದೇವಾಲಯದ ವಾಸ್ತುಶಿಲ್ಪ.
- B. ಗುಮ್ಮಟೆಗಳು ಮತ್ತು ಕಮಾನುಗಳೊಂದಿಗೆ ಅದರ ಉತ್ತಮ ಸ್ಥಾನ.
- C. ನಗರದ ಹೃದಯಭಾಗದಲ್ಲಿ ಅದರ ಭವ್ಯವಾದ ಸ್ಮಾರಕ.
- D. ಅದರ ಇಪ್ಪತ್ತೆಂಟು ದೊಡ್ಡ ದರ್ವಾಜಾಗಳು.
- E. ನಗರದೊಳಗೆ ಅನೇಕ ಜಲಪಾತಗಳು.

ಈ ಕೆಳಗಿನ ಆಯ್ಕೆಗಳಿಂದ ಸರಿಯಾದ ಉತ್ತರವನ್ನು ಆರಿಸಿ:

- 1. A ಮತ್ತು B ಮಾತ್ರ
- 2. C ಮತ್ತು D ಮಾತ್ರ
- 3. B ಮತ್ತು D ಮಾತ್ರ
- 4. D ಮತ್ತು E ಮಾತ್ರ

Options :

- 485584145977. 1
- 485584145978. 2
- 485584145979. 3

Question Number : 111 Question Id : 48558436496 Question Type : MCQ Option Shuffling : No Is Question Mandatory : No Calculator : None Response Time : N.A Think Time : N.A Minimum Instruction Time : 0

Correct Marks : 5 Wrong Marks : 1

Question Key Details :

Key	Value
Comprehension	MCQ

Match List I with List II:

LIST I (Traders)		LIST II (Countries)	
A.	Nicolo de Conti	I.	England
B.	Duarte Barbosa	II.	Italy
C.	Peter Mundy	III.	Russia
D.	Afanasii Nikitin	IV.	Portugal

Choose the **correct** answer from the options given below:

1. A-II, B-I, C-III, D-IV
2. A-II, B-III, C-IV, D-I
3. A-IV, B-III, C-II, D-I
4. A-II, B-IV, C-I, D-III

Options :

485584145981. 1
485584145982. 2
485584145983. 3
485584145984. 4

Question Number : 111 Question Id : 48558436496 Question Type : MCQ Option Shuffling : No Is Question Mandatory : No Calculator : None Response Time : N.A Think Time : N.A Minimum Instruction Time : 0

Correct Marks : 5 Wrong Marks : 1

Question Key Details :

Key	Value
Comprehension	MCQ

ಪಟ್ಟಿ - I ಅನ್ನು ಪಟ್ಟಿ - IIರ ಜೊತೆ ಹೊಂದಿಸಿ.

ಪಟ್ಟಿ-I ವ್ಯಾಪಾರಿಗಳು		ಪಟ್ಟಿ-II ದೇಶಗಳು	
A.	ನಿಕೋಲೊ ಡಿ ಕಾಂಟಿ	I.	ಇಂಗ್ಲೆಂಡ್
B.	ಡ್ಯೂಬೆರ್ ಬರ್ಬೊಸಾ	II.	ಇಟಲಿ
C.	ಪೀಟರ್ ಮುಂಡಿ	III.	ರಷ್ಯಾ
D.	ಅಫಾನಾಸೀ ನಿಕಿಟಿನ್	IV.	ಪೋರ್ಚುಗಲ್

ಈ ಕೆಳಗಿನ ಆಯ್ಕೆಗಳಿಂದ ಸರಿಯಾದ ಉತ್ತರವನ್ನು ಆರಿಸಿ:

1. A-II, B-I, C-III, D-IV
2. A-II, B-III, C-IV, D-I
3. A-IV, B-III, C-II, D-I
4. A-II, B-IV, C-I, D-III

Options :

485584145981. 1
485584145982. 2
485584145983. 3
485584145984. 4

Question Number : 112 Question Id : 48558436497 Question Type : MCQ Option Shuffling : No Is Question Mandatory : No Calculator : None Response Time : N.A Think Time : N.A Minimum Instruction Time : 0

Correct Marks : 5 Wrong Marks : 1

Question Key Details :

Key	Value
Comprehension	MCQ

Match List I with List II:

LIST I		LIST II	
A.	Alvars	I.	Bijak
B.	Virashaiva	II.	Tevaram
C.	Nayanars	III.	Nalayira Divyaprobandham
D.	Kabir	IV.	Vachanas

Choose the correct answer from the options given below:

1. A-I, B-IV, C-III, D-II
2. A-III, B-IV, C-II, D-I
3. A-II, B-I, C-III, D-IV
4. A-IV, B-III, C-I, D-II

Options :

485584145985. 1
485584145986. 2
485584145987. 3

485584145988. 4

Question Number : 112 Question Id : 48558436497 Question Type : MCQ Option Shuffling : No Is Question Mandatory : No Calculator : None Response Time : N.A Think Time : N.A Minimum Instruction Time : 0

Correct Marks : 5 Wrong Marks : 1

Question Key Details :

Key	Value
Comprehension	MCQ

ಪಟ್ಟಿ - I ಅನ್ನು ಪಟ್ಟಿ - IIರ ಜೊತೆ ಹೊಂದಿಸಿ.

LIST I		LIST II	
A.	ಆಳ್ವಾರರು	I.	ಬಿಜಕ್
B.	ವೀರಶೈವ	II.	ತವರಮ್
C.	ನಯಾನಾರರು	III.	ನಳಯಿರಾ ದಿವ್ಯಪ್ರಬಂಧಂ
D.	ಕಬೀರ್	IV.	ವಚನಗಳು

ಈ ಕೆಳಗಿನ ಆಯ್ಕೆಗಳಿಂದ ಸರಿಯಾದ ಉತ್ತರವನ್ನು ಆರಿಸಿ:

1. A-I, B-IV, C-III, D-II
2. A-III, B-IV, C-II, D-I
3. A-II, B-I, C-III, D-IV
4. A-IV, B-III, C-I, D-II

Options :

485584145985. 1
485584145986. 2
485584145987. 3
485584145988. 4

Question Number : 113 Question Id : 48558436498 Question Type : MCQ Option Shuffling : No Is Question Mandatory : No Calculator : None Response Time : N.A Think Time : N.A Minimum Instruction Time : 0

Correct Marks : 5 Wrong Marks : 1

Question Key Details :

Key	Value
Comprehension	MCQ

Match List I with List II:

LIST I (Sufi Teachers)		LIST II (Year of Death)	
A.	Muhammad Sijzi	I.	1265
B.	Fariduddin Ganj-i-Shakar	II.	1235
C.	Nizamuddin Auliya	III.	1356
D.	Nasiruddin Chirag	IV.	1325

Choose the correct answer from the options given below:

1. A-II, B-III, C-I, D-IV
2. A-I, B-II, C-III, D-IV
3. A-II, B-I, C-IV, D-III
4. A-IV, B-III, C-I, D-II

Options :

485584145989. 1
485584145990. 2
485584145991. 3
485584145992. 4

Question Number : 113 Question Id : 48558436498 Question Type : MCQ Option Shuffling : No Is Question Mandatory : No Calculator : None Response Time : N.A Think Time : N.A Minimum Instruction Time : 0

Correct Marks : 5 Wrong Marks : 1

Question Key Details :

Key	Value
Comprehension	MCQ

ಪಟ್ಟಿ - I ಅನ್ನು ಪಟ್ಟಿ - IIರ ಜೊತೆ ಹೊಂದಿಸಿ.

ಪಟ್ಟಿ - I (ಸೂಫಿ ಶಿಕ್ಷಕರು)		ಪಟ್ಟಿ - II (ಸಾವಿನ ವರ್ಷಗಳು)	
A.	ಮುನುದ್ದೀನ್ ಸಂಜಾರಿ	I.	1265
B.	ಫರಿದುದ್ದೀನ್-ಗಂಜ್-ಐ-ಶಕರ್	II.	1235
C.	ನಿಜಾಮುದ್ದೀನ್ ಚಾಲಿಯಾ	III.	1356
D.	ನಾಸೀರುದ್ದೀನ್ ಚಿರಾಗ್	IV.	1325

ಈ ಕೆಳಗಿನ ಆಯ್ಕೆಗಳಿಂದ ಸರಿಯಾದ ಉತ್ತರವನ್ನು ಆರಿಸಿ:

1. A-II, B-III, C-I, D-IV
2. A-I, B-II, C-III, D-IV
3. A-II, B-I, C-IV, D-III
4. A-IV, B-III, C-I, D-II

Options :

485584145989. 1
485584145990. 2

485584145991. 3

485584145992. 4

Question Number : 114 Question Id : 48558436499 Question Type : MCQ Option Shuffling : No Is Question Mandatory : No Calculator : None Response Time : N.A Think Time : N.A Minimum Instruction Time : 0

Correct Marks : 5 Wrong Marks : 1

Question Key Details :

Key	Value
Comprehension	MCQ

Choose the **incorrect** statement out of the following:

1. Guru Nanak rejected the sacrifices and rituals of both Hindus and Muslims.
2. Guru Nanak did not wish to establish his own new religion.
3. Guru Nanak advocated the form of Nirguna Bhakti.
4. Guru Nanak appointed one his disciple 'Angad' to succeed him as the preceptor.

Options :

485584145993. 1

485584145994. 2

485584145995. 3

485584145996. 4

Question Number : 114 Question Id : 48558436499 Question Type : MCQ Option Shuffling : No Is Question Mandatory : No Calculator : None Response Time : N.A Think Time : N.A Minimum Instruction Time : 0

Correct Marks : 5 Wrong Marks : 1

Question Key Details :

Key	Value
Comprehension	MCQ

ಕೆಲಗನವುಗಲಲ್ಲಿ ತಪ್ಪಾದ ಹೇಳಿಕೆಯನ್ನು ಆಯ್ಕೆ ಮಾಡಿ.

1. ಗುರುನಾನಕ್ ಅವರು ಹಿಂದೂಗಳು ಮತ್ತು ಮುಸ್ಲಿಮರ ತ್ಯಾಗ ಮತ್ತು ಆಚರಣೆಗಳನ್ನು ತಿರಸ್ಕರಿಸಿದರು.
2. ಗುರುನಾನಕ್ ಅವರು ತಮ್ಮದೇ ಆದ ಹೊಸ ಧರ್ಮವನ್ನು ಸ್ಥಾಪಿಸಲು ಬಯಸಲಿಲ್ಲ.
3. ಗುರುನಾನಕ್ ಅವರು ನಿರ್ಗುಣ ಭಕ್ತಿಯ ಸ್ವರೂಪವನ್ನು ಪ್ರತಿಪಾದಿಸಿದರು.
4. ಗುರುನಾನಕ್ ಅವರು ತಮ್ಮ ಶಿಷ್ಯ 'ಅಂಗದ' ಎಂಬುವವನನ್ನು ಗೃಹಿಕೆಗಾರನಾಗಿ ನೇಮಿಸಿದರು.

Options :

485584145993. 1

485584145994. 2

485584145995. 3

485584145996. 4

Question Number : 115 Question Id : 48558436500 Question Type : MCQ Option Shuffling : No Is Question Mandatory : No Calculator : None Response Time : N.A Think Time : N.A Minimum Instruction Time : 0

Correct Marks : 5 Wrong Marks : 1

Question Key Details :

Key	Value
Comprehension	MCQ

Chronologically arrange the landmark events in the discovery of Vijayanagara.

- Conservation under John Marshall.
- Documentation of temple inscriptions by J.F. Fleet.
- Survey of Vijayanagara by Colin Mackenzie.
- Status of world heritage site by UNESCO.
- Photography of the archaeological site under Alexander Greenlaw.

Choose the correct answer from the options given below:

- C, E, B, A, D
- B, D, A, E, C
- C, D, A, B, E
- E, A, C, D, B

Options :

485584145997. 1
485584145998. 2
485584145999. 3
485584146000. 4

Question Number : 115 Question Id : 48558436500 Question Type : MCQ Option Shuffling : No Is Question Mandatory : No Calculator : None Response Time : N.A Think Time : N.A Minimum Instruction Time : 0

Correct Marks : 5 Wrong Marks : 1

Question Key Details :

Key	Value
Comprehension	MCQ

ವಿಜಯನಗರದ ಆವಿಷ್ಕಾರದಲ್ಲಿ ಹೆಗ್ಗುರುತು ಘಟನೆಗಳನ್ನು ಕಾಲಾನುಕ್ರಮವಾಗಿ ಜೋಡಿಸಿ.

- ಜಾನ್ ಮಾರ್ಷಲ್ ಆಡಿಯಲ್ಲಿ ಸಂರಕ್ಷಣೆ.
- ಜೆ.ಎಫ್. ಫ್ಲೀಟ್ ಮೂಲಕ ದೇವಾಲಯದ ಶಾಸನಗಳ ದಾಖಲಾತಿ.
- ಕಾಲಿನ್ ಮೆಕೆಂಜಿ ಅವರಿಂದ ವಿಜಯನಗರದ ಸಮೀಕ್ಷೆ.
- ಯುನೆಸ್ಕೋ (UNESCO) ವಿಶ್ವ ಹ್ಯಾರಿಟೇಜ್ ಸೈಟ್‌ನ ಸ್ಥಿತಿ.
- ಅಲೆಕ್ಸಾಂಡರ್ ಗ್ರೀನ್ ಲಾ ಆಡಿಯಲ್ಲಿ ಪುರಾತತ್ವ ಶಾಸ್ತ್ರದ ಸ್ಥಳದ ಛಾಯಾಗ್ರಹಣ.

ಈ ಕೆಳಗಿನ ಆಯ್ಕೆಗಳಿಂದ ಸರಿಯಾದ ಉತ್ತರವನ್ನು ಆರಿಸಿ:

- C, E, B, A, D
- B, D, A, E, C
- C, D, A, B, E
- E, A, C, D, B

Options :

485584145997. 1

485584145998. 2
485584145999. 3
485584146000. 4

Question Number : 116 Question Id : 48558436501 Question Type : MCQ Option Shuffling : No Is Question Mandatory : No Calculator : None Response Time : N.A Think Time : N.A Minimum Instruction Time : 0

Correct Marks : 5 Wrong Marks : 1

Question Key Details :

Key	Value
Comprehension	MCQ

Arrange the following dynasties in a chronological order.

- A. Tuluva dynasty
- B. Saluva dynasty
- C. Aravidu dynasty
- D. Sangama dynasty

Choose the correct answer from the options given below:

- 1. A, B, C, D
- 2. A, B, D, C
- 3. C, D, A, B
- 4. D, B, A, C

Options :

485584146001. 1
485584146002. 2
485584146003. 3
485584146004. 4

Question Number : 116 Question Id : 48558436501 Question Type : MCQ Option Shuffling : No Is Question Mandatory : No Calculator : None Response Time : N.A Think Time : N.A Minimum Instruction Time : 0

Correct Marks : 5 Wrong Marks : 1

Question Key Details :

Key	Value
Comprehension	MCQ

ಕೆಳಗಿನ ರಾಜವಂಶಗಳನ್ನು ಕಾಲಾನುಕ್ರಮದಲ್ಲಿ ಜೋಡಿಸಿ.

- A. ತುಳುವ ರಾಜವಂಶ
- B. ಸಾಳುವ ರಾಜವಂಶ
- C. ಅರವೀಡು ರಾಜವಂಶ
- D. ಸಂಗಮ ರಾಜವಂಶ

ಈ ಕೆಳಗಿನ ಆಯ್ಕೆಗಳಿಂದ ಸರಿಯಾದ ಉತ್ತರವನ್ನು ಆರಿಸಿ:

- 1. A, B, C, D
- 2. A, B, D, C
- 3. C, D, A, B
- 4. D, B, A, C

Options :

- 485584146001. 1
- 485584146002. 2
- 485584146003. 3
- 485584146004. 4

Question Number : 117 Question Id : 48558436502 Question Type : MCQ Option Shuffling : No Is Question Mandatory : No Calculator : None Response Time : N.A Think Time : N.A Minimum Instruction Time : 0

Correct Marks : 5 Wrong Marks : 1

Question Key Details :

Key	Value
Comprehension	MCQ

What is a 'Gopuram' in the context of Vijayanagara Empire?

- 1. Mandapa
- 2. Platform
- 3. Shrine
- 4. Gateway

Options :

- 485584146005. 1
- 485584146006. 2
- 485584146007. 3
- 485584146008. 4

Question Number : 117 Question Id : 48558436502 Question Type : MCQ Option Shuffling : No Is Question Mandatory : No Calculator : None Response Time : N.A Think Time : N.A Minimum Instruction Time : 0

Correct Marks : 5 Wrong Marks : 1

Question Key Details :

Key	Value
Comprehension	MCQ

ವಿಜಯನಗರ ಸಾಮ್ರಾಜ್ಯದ ಸಂದರ್ಭದಲ್ಲಿ, ಗೋಪುರ ಎಂದರೇನು?

1. ಮಂಡಪ
2. ವೇದಿಕೆ
3. ದೇಗುಲ
4. ಗೇಟಾವೇ

Options :

485584146005. 1
485584146006. 2
485584146007. 3
485584146008. 4

Question Number : 118 Question Id : 48558436503 Question Type : MCQ Option Shuffling : No Is Question Mandatory : No Calculator : None Response Time : N.A Think Time : N.A Minimum Instruction Time : 0

Correct Marks : 5 Wrong Marks : 1

Question Key Details :

Key	Value
Comprehension	MCQ

Vijayanagara kings claimed to rule on behalf of the God _____.

1. Pampadevi
2. Virupaksha
3. Vitthala
4. Rama

Options :

485584146009. 1
485584146010. 2
485584146011. 3
485584146012. 4

Question Number : 118 Question Id : 48558436503 Question Type : MCQ Option Shuffling : No Is Question Mandatory : No Calculator : None Response Time : N.A Think Time : N.A Minimum Instruction Time : 0

Correct Marks : 5 Wrong Marks : 1

Question Key Details :

Key	Value
Comprehension	MCQ

ವಿಜಯನಗರದ ಅರಸರು ದೇವರ ಪರವಾಗಿ ಆಡಳಿತ ನಡೆಸುವುದಾಗಿ ಹೇಳಿಕೊಂಡರು _____.

1. ಪಂಪಾದೇವಿ
2. ವಿರೂಪಾಕ್ಷ
3. ವಿಠ್ಠಲ
4. ರಾಮ

Options :

485584146009. 1
485584146010. 2
485584146011. 3
485584146012. 4

Question Number : 119 Question Id : 48558436504 Question Type : MCQ Option Shuffling : No Is Question Mandatory : No Calculator : None Response Time : N.A Think Time : N.A Minimum Instruction Time : 0

Correct Marks : 5 Wrong Marks : 1

Question Key Details :

Key	Value
Comprehension	MCQ

The Vijayanagara Empire was known to its contemporaries as _____.

1. Maharashtra Samrajyamu
2. Andhra Samrajyamu
3. Tamil Samrajyamu
4. Karnataka Samrajyamu

Options :

485584146013. 1
485584146014. 2
485584146015. 3
485584146016. 4

Question Number : 119 Question Id : 48558436504 Question Type : MCQ Option Shuffling : No Is Question Mandatory : No Calculator : None Response Time : N.A Think Time : N.A Minimum Instruction Time : 0

Correct Marks : 5 Wrong Marks : 1

Question Key Details :

Key	Value
Comprehension	MCQ

ವಿಜಯನಗರ ಸಾಮ್ರಾಜ್ಯವು ಅದರ ಸಮಕಾಲೀನರಿಗೆ ಹೆಸರುವಾಸಿಯಾಗಿದೆ:

1. ಮಹಾರಾಷ್ಟ್ರ ಸಾಮ್ರಾಜ್ಯಮು
2. ಆಂಧ್ರ ಸಾಮ್ರಾಜ್ಯಮು
3. ತಮಿಳು ಸಾಮ್ರಾಜ್ಯಮು
4. ಕರ್ನಾಟಕ ಸಾಮ್ರಾಜ್ಯಮು

Options :

485584146013. 1
485584146014. 2
485584146015. 3
485584146016. 4

Question Number : 120 Question Id : 48558436505 Question Type : MCQ Option Shuffling : No Is Question Mandatory : No Calculator : None Response Time : N.A Think Time : N.A Minimum Instruction Time : 0

Correct Marks : 5 Wrong Marks : 1

Question Key Details :

Key	Value
Comprehension	MCQ

In the 17th century, Indo-Persian sources, the term for non-resident cultivators, who belonged to some other village but cultivated land elsewhere on contractual basis, were known as _____.

1. Khud-Kashta
2. Pahi-Kashta
3. Muqaddam
4. Muzarian

Options :

485584146017. 1
485584146018. 2
485584146019. 3
485584146020. 4

Question Number : 120 Question Id : 48558436505 Question Type : MCQ Option Shuffling : No Is Question Mandatory : No Calculator : None Response Time : N.A Think Time : N.A Minimum Instruction Time : 0

Correct Marks : 5 Wrong Marks : 1

Question Key Details :

Key	Value
Comprehension	MCQ

17ನೇ ಶತಮಾನದಲ್ಲಿ ಪರ್ಷಿಯನ್ ಮೂಲಗಳಲ್ಲಿ ಬೇರೆ ಯಾವುದಾದರೂ ಹಳ್ಳಿಗೆ ಸೇರಿ, ಆದರೆ ಗುತ್ತಿಗೆ ಆಧಾರದ ಮೇಲೆ ಬೇರೆಡೆ ಧೂಮಿಯನ್ನು ಬೆಳೆಸಿದ್ದ ಅನಿವಾಸಿ ಕೃಷಿಕರಿಗಿರುವ ಪದವನ್ನು ಹೀಗೆನ್ನುತ್ತಾರೆ:

1. ಖುದ್-ಕಷ್ಟ
2. ಪರಿ-ಕಷ್ಟ
3. ಮುಕದ್ದಂ
4. ಮುಜಾರಿಯನ್

Options :

485584146017. 1
485584146018. 2
485584146019. 3
485584146020. 4

Question Number : 121 Question Id : 48558436506 Question Type : MCQ Option Shuffling : No Is Question Mandatory : No Calculator : None Response Time : N.A Think Time : N.A Minimum Instruction Time : 0

Correct Marks : 5 Wrong Marks : 1

Question Key Details :

Key	Value
Comprehension	MCQ

Identify the **correct** sequence of the chronicles written during the Mughal period.

- A. Akbar Nama
- B. Alamgir Nama
- C. Char Chaman
- D. Jahangir Nama
- E. Humayun Nama

Choose the **correct** answer from the options given below:

1. A, C, B, D, E
2. A, D, B, C, E
3. E, A, B, D, C
4. E, A, D, C, B

Options :

485584146021. 1
485584146022. 2
485584146023. 3
485584146024. 4

Question Number : 121 Question Id : 48558436506 Question Type : MCQ Option Shuffling : No Is Question Mandatory : No Calculator : None Response Time : N.A Think Time : N.A Minimum Instruction Time : 0

Correct Marks : 5 Wrong Marks : 1

Question Key Details :

Key	Value
-----	-------

ಮೊಘಲ್ ಅವಧಿಯಲ್ಲಿ ಬರೆದ ವೃತ್ತಾಂತಗಳ ಸರಿಯಾದ ಅನುಕ್ರಮವನ್ನು ಗುರುತಿಸಿ.

- A. ಅಕ್ಬರ್ ನಾಮ
- B. ಆಲಂಗಿರ್ ನಾಮ
- C. ಚಾರ್ ಚಮನ್
- D. ಜಹಾಂಗೀರ್ ನಾಮ
- E. ಹುಮಾಯೂನ್ ನಾಮ

ಈ ಕೆಳಗಿನ ಆಯ್ಕೆಗಳಿಂದ ಸರಿಯಾದ ಉತ್ತರವನ್ನು ಆರಿಸಿ:

- 1. A, C, B, D, E
- 2. A, D, B, C, E
- 3. E, A, B, D, C
- 4. E, A, D, C, B

Options :

- 485584146021. 1
- 485584146022. 2
- 485584146023. 3
- 485584146024. 4

Question Number : 122 Question Id : 48558436507 Question Type : MCQ Option Shuffling : No Is Question Mandatory : No Calculator : None Response Time : N.A Think Time : N.A Minimum Instruction Time : 0

Correct Marks : 5 Wrong Marks : 1

Question Key Details :

Key	Value
Comprehension	MCQ

Which minister looked after the finances in the Mughal Empire?

- 1. Sadr-us-Sadr
- 2. Diwan-i-Ala
- 3. Mir Bakshi
- 4. Mir Saman

Options :

- 485584146025. 1
- 485584146026. 2
- 485584146027. 3
- 485584146028. 4

Question Number : 122 Question Id : 48558436507 Question Type : MCQ Option Shuffling : No Is Question Mandatory : No Calculator : None Response Time : N.A Think Time : N.A Minimum Instruction Time : 0

Correct Marks : 5 Wrong Marks : 1

Question Key Details :

Key	Value

ಯಾವ ಮಂತ್ರಿ ಮೊಘಲ್ ಸಾಮ್ರಾಜ್ಯದಲ್ಲಿ ಹಣಕಾಸು ನೋಡಿಕೊಳ್ಳುತ್ತಿದ್ದನು?

1. ಸದ್ರ್-ಉಸ್-ಸಮರ್
2. ದಿವಾನ್-ಐ-ಆಲಾ
3. ಮಿರ್ ಬಕ್ಷಿ
4. ಮಿರ್ ಸಮನ್

Options :

485584146025. 1
485584146026. 2
485584146027. 3
485584146028. 4

Question Number : 123 Question Id : 48558436508 Question Type : MCQ Option Shuffling : No Is Question Mandatory : No Calculator : None Response Time : N.A Think Time : N.A Minimum Instruction Time : 0

Correct Marks : 5 Wrong Marks : 1

Question Key Details :

Key	Value
Comprehension	MCQ

Whom did Akbar honour with the title "Zarrin qalam"?

1. Muhammad Husayn
2. Abul Hasan
3. Payag
4. Abdul Hamid Lahori

Options :

485584146029. 1
485584146030. 2
485584146031. 3
485584146032. 4

Question Number : 123 Question Id : 48558436508 Question Type : MCQ Option Shuffling : No Is Question Mandatory : No Calculator : None Response Time : N.A Think Time : N.A Minimum Instruction Time : 0

Correct Marks : 5 Wrong Marks : 1

Question Key Details :

Key	Value
Comprehension	MCQ

ಅಕ್ಕರ್ ಅವರಿಗೆ ಝರಿನ್ ಕಲಮ್ ಎಂಬ ಬಿರುದು ನೀಡಿ ಗೌರವಿಸಿದವರು ಯಾರು?

1. ಮುಹಮ್ಮದ್ ಹುಸಾಯಿನ್
2. ಅಬ್ದುಲ್ ಹಸನ್
3. ಪಯೂಗ್
4. ಅಬ್ದುಲ್ ಹಮೀದ್ ಲಾಹೋರಿ

Options :

485584146029. 1
485584146030. 2
485584146031. 3
485584146032. 4

Question Number : 124 Question Id : 48558436509 Question Type : MCQ Option Shuffling : No Is Question Mandatory : No Calculator : None Response Time : N.A Think Time : N.A Minimum Instruction Time : 0

Correct Marks : 5 Wrong Marks : 1

Question Key Details :

Key	Value
Comprehension	MCQ

The Permanent Settlement came into operation in _____.

1. 1864
2. 1757
3. 1793
4. 1800

Options :

485584146033. 1
485584146034. 2
485584146035. 3
485584146036. 4

Question Number : 124 Question Id : 48558436509 Question Type : MCQ Option Shuffling : No Is Question Mandatory : No Calculator : None Response Time : N.A Think Time : N.A Minimum Instruction Time : 0

Correct Marks : 5 Wrong Marks : 1

Question Key Details :

Key	Value
Comprehension	MCQ

ಶಾಶ್ವತ ವಸಾಹತು ಕಾರ್ಯರೂಪಕ್ಕೆ ಬಂದಿದು _____ ರಲ್ಲಿ:

1. 1864
2. 1757
3. 1793
4. 1800

Options :

485584146033. 1
485584146034. 2
485584146035. 3
485584146036. 4

Question Number : 125 Question Id : 48558436510 Question Type : MCQ Option Shuffling : No Is Question Mandatory : No Calculator : None Response Time : N.A Think Time : N.A Minimum Instruction Time : 0

Correct Marks : 5 Wrong Marks : 1

Question Key Details :

Key	Value
Comprehension	MCQ

The Manchester Cotton Company was formed in the year _____.

1. 1857
2. 1858
3. 1859
4. 1860

Options :

485584146037. 1
485584146038. 2
485584146039. 3
485584146040. 4

Question Number : 125 Question Id : 48558436510 Question Type : MCQ Option Shuffling : No Is Question Mandatory : No Calculator : None Response Time : N.A Think Time : N.A Minimum Instruction Time : 0

Correct Marks : 5 Wrong Marks : 1

Question Key Details :

Key	Value
Comprehension	MCQ

ಮ್ಯಾಂಚೆಸ್ಟರ್ ಹತ್ತಿ ಕಂಪನಿಯನ್ನು _____ ವರ್ಷದಲ್ಲಿ ರಚಿಸಲಾಯಿತು.

1. 1857
2. 1858
3. 1859
4. 1860

Options :

485584146037. 1
485584146038. 2
485584146039. 3
485584146040. 4

Question Number : 126 Question Id : 48558436511 Question Type : MCQ Option Shuffling : No Is Question Mandatory : No Calculator : None Response Time : N.A Think Time : N.A Minimum Instruction Time : 0

Correct Marks : 5 Wrong Marks : 1

Question Key Details :

Key	Value
Comprehension	MCQ

Before the age of railway, the town of Mirzapur was a collection centre for cotton from which area?

1. Punjab
2. Tamil Nadu
3. Gujarat
4. Deccan

Options :

485584146041. 1
485584146042. 2
485584146043. 3
485584146044. 4

Question Number : 126 Question Id : 48558436511 Question Type : MCQ Option Shuffling : No Is Question Mandatory : No Calculator : None Response Time : N.A Think Time : N.A Minimum Instruction Time : 0

Correct Marks : 5 Wrong Marks : 1

Question Key Details :

Key	Value
Comprehension	MCQ

ರೈಲ್ವೆ ಯುಗದ ಮೊದಲು ಮಿರ್ಜಾಪುರ ಪಟ್ಟಣವು ಯಾವ ಪ್ರದೇಶದಿಂದ ಬರುವ ಹತ್ತಿಯ ಸಂಗ್ರಹ ಕೇಂದ್ರವಾಗಿತ್ತು?

1. ಪಂಜಾಬ್
2. ತಮಿಳುನಾಡು
3. ಗುಜರಾತ್
4. ಡೆಕ್ಕನ್

Options :

485584146041. 1
485584146042. 2
485584146043. 3
485584146044. 4

Question Number : 127 Question Id : 48558436512 Question Type : MCQ Option Shuffling : No Is Question Mandatory : No Calculator : None Response Time : N.A Think Time : N.A Minimum Instruction Time : 0

Correct Marks : 5 Wrong Marks : 1

Question Key Details :

Key	Value
Comprehension	MCQ

Satyajit Ray's film 'Jalshaghar' dealt with the subject matter of _____.

1. India's freedom struggle.
2. The decline of the aristocratic zamindari style of living.
3. Revolt of 1857.
4. Swadeshi Movement in Bengal.

Options :

485584146045. 1
485584146046. 2
485584146047. 3
485584146048. 4

Question Number : 127 Question Id : 48558436512 Question Type : MCQ Option Shuffling : No Is Question Mandatory : No Calculator : None Response Time : N.A Think Time : N.A Minimum Instruction Time : 0

Correct Marks : 5 Wrong Marks : 1

Question Key Details :

Key	Value
Comprehension	MCQ

ಸತ್ಯಜಿತ್ ರಾಯ್ ಅವರ ಚಲನಚಿತ್ರ 'ಜಲಶಾಫರ್' _____ ಎಂಬ ವಿಷಯದ ಬಗ್ಗೆ ವ್ಯವಹರಿಸಿದೆ.

1. ಭಾರತದ ಸ್ವಾತಂತ್ರ್ಯ ಹೋರಾಟ
2. ಶ್ರೀಮಂತ ಜಮೀನ್ದಾರಿ ಜೀವನ ಶೈಲಿಯ ಅವನತಿ
3. 1857ರ ದಂಗೆ
4. ಬಂಗಾಳದಲ್ಲಿ ಸ್ವದೇಶಿ ಚಳುವಳಿ

Options :

485584146045. 1
485584146046. 2
485584146047. 3
485584146048. 4

Question Number : 128 Question Id : 48558436513 Question Type : MCQ Option Shuffling : No Is Question Mandatory : No Calculator : None Response Time : N.A Think Time : N.A Minimum Instruction Time : 0

Correct Marks : 5 Wrong Marks : 1

Question Key Details :

Key	Value
Comprehension	MCQ

Who organised the zoo which later on became the Calcutta Alipore Zoo?

1. Francis Buchanan
2. Augustus Cornwallis
3. Charles Cornwallis
4. Maharaja Mehtab Chand

Options :

485584146049. 1
485584146050. 2
485584146051. 3
485584146052. 4

Question Number : 128 Question Id : 48558436513 Question Type : MCQ Option Shuffling : No Is Question Mandatory : No Calculator : None Response Time : N.A Think Time : N.A Minimum Instruction Time : 0

Correct Marks : 5 Wrong Marks : 1

Question Key Details :

Key	Value
Comprehension	MCQ

ಕಲ್ಕತ್ತಾ ಅಲಿಪೋರ್ ಮ್ಯಾಗಾಲಯವಾಗಿ ಮಾರ್ಪಟ್ಟ ನಂತರ ಮ್ಯಾಗಾಲಯವನ್ನು ಯಾರು ಆಯೋಜಿಸಿದರು?

1. ಫ್ರಾನ್ಸಿಸ್ ಬುಕಾನನ್
2. ಆಗಸ್ಟಸ್ ಕಾರ್ನವಾಲಿಸ್
3. ಚಾರ್ಲ್ಸ್ ಕಾರ್ನವಾಲಿಸ್
4. ಮಹಾರಾಜಾ ಮೆಹ್ತಾಬ್ ಚಾಂದ್

Options :

485584146049. 1
485584146050. 2
485584146051. 3
485584146052. 4

Question Number : 129 Question Id : 48558436514 Question Type : MCQ Option Shuffling : No Is Question Mandatory : No Calculator : None Response Time : N.A Think Time : N.A Minimum Instruction Time : 0

Correct Marks : 5 Wrong Marks : 1

Question Key Details :

Key	Value
Comprehension	MCQ

Where is 'Borah Bazaar' located?

1. Madras
2. Bombay
3. Lucknow
4. Shimala

Options :

485584146053. 1
485584146054. 2
485584146055. 3
485584146056. 4

Question Number : 129 Question Id : 48558436514 Question Type : MCQ Option Shuffling : No Is Question Mandatory : No Calculator : None Response Time : N.A Think Time : N.A Minimum Instruction Time : 0

Correct Marks : 5 Wrong Marks : 1

Question Key Details :

Key	Value
Comprehension	MCQ

ಬೋರಾ ಬಜಾರ್ ಎಲ್ಲಿದೆ?

1. ಮದ್ರಾಸ್
2. ಬಾಂಬೆ
3. ಲಖನೌ
4. ಶಿಮ್ಲಾ

Options :

485584146053. 1
485584146054. 2
485584146055. 3
485584146056. 4

Question Number : 130 Question Id : 48558436515 Question Type : MCQ Option Shuffling : No Is Question Mandatory : No Calculator : None Response Time : N.A Think Time : N.A Minimum Instruction Time : 0

Correct Marks : 5 Wrong Marks : 1

Question Key Details :

Key	Value
Comprehension	MCQ

Name the historian who remarked that South Africa was "the making of Mahatma".

1. Lala Lajpat Rai
2. Bal Gangadhar Tilak
3. Chandran Devanesan
4. Abindranath Tagore

Options :

485584146057. 1
485584146058. 2
485584146059. 3
485584146060. 4

Question Number : 130 Question Id : 48558436515 Question Type : MCQ Option Shuffling : No Is Question Mandatory : No Calculator : None Response Time : N.A Think Time : N.A Minimum Instruction Time : 0

Correct Marks : 5 Wrong Marks : 1

Question Key Details :

Key	Value
Comprehension	MCQ

ದಕ್ಷಿಣ ಆಫ್ರಿಕಾವು ಮಹಾತ್ಮರ ರಚನೆಯಾಗಿದೆ ಎಂದು ಟೀಕಿಸಿದ ಇತಿಹಾಸಕಾರರನ್ನು ಹೆಸರಿಸಿ.

1. ಲಾಲಾ ಲಜಪತ್ ರಾಯ್
2. ಬಾಲ ಗಂಗಾಧರ ತಿಲಕ್
3. ಚಂದ್ರನ್ ದೇವನೇಸನ್
4. ಅಬೀಂದ್ರನಾಥ್ ಟಾಗೋರ್

Options :

485584146057. 1
485584146058. 2
485584146059. 3
485584146060. 4

Question Number : 131 Question Id : 48558436516 Question Type : MCQ Option Shuffling : No Is Question Mandatory : No Calculator : None Response Time : N.A Think Time : N.A Minimum Instruction Time : 0

Correct Marks : 5 Wrong Marks : 1

Question Key Details :

Key	Value
Comprehension	MCQ

Who from among the following nationalist leaders belonged to the group of Moderates?

1. Bipin Chandra Pal
2. Bal Gangadhar Tilak
3. Gopal Krishna Gokhale
4. Chandrashekhhar Azad

Options :

485584146061. 1
485584146062. 2
485584146063. 3
485584146064. 4

Question Number : 131 Question Id : 48558436516 Question Type : MCQ Option Shuffling : No Is Question Mandatory : No Calculator : None Response Time : N.A Think Time : N.A Minimum Instruction Time : 0

Correct Marks : 5 Wrong Marks : 1

Question Key Details :

Key	Value
Comprehension	MCQ

ಈ ಕೆಳಗಿನ ರಾಷ್ಟ್ರೀಯತಾವಾದಿ ನಾಯಕರಲ್ಲಿ ಮಿತವಾದಿಗಳ ಗುಂಪಿಗೆ ಸೇರಿದವರು ಯಾರು?

1. ಬಿಪಿನ್ ಚಂದ್ರ ಪಾಲ್
2. ಬಾಲ ಗಂಗಾಧರ ತಿಲಕ್
3. ಗೋಪಾಲಕೃಷ್ಣ ಗೋಖಲೆ
4. ಚಂದ್ರಶೇಖರ ಆಜಾದ್

Options :

485584146061. 1
485584146062. 2
485584146063. 3
485584146064. 4

Question Number : 132 Question Id : 48558436517 Question Type : MCQ Option Shuffling : No Is Question Mandatory : No Calculator : None Response Time : N.A Think Time : N.A Minimum Instruction Time : 0

Correct Marks : 5 Wrong Marks : 1

Question Key Details :

Key	Value
Comprehension	MCQ

Who amongst the following were close associates of Gandhi in the years 1917-1922?

- A. Vallabhbhai Patel
- B. Subhas Chandra Bose
- C. Annie Besant
- D. Govind Ballabh Pant
- E. B.R. Ambedkar

Choose the **correct** answer from the options given below:

1. A, C, E only
2. A, B, E only
3. B, D, C only
4. A, B, D only

Options :

485584146065. 1
485584146066. 2
485584146067. 3
485584146068. 4

Question Number : 132 Question Id : 48558436517 Question Type : MCQ Option Shuffling : No Is Question Mandatory : No Calculator : None Response Time : N.A Think Time : N.A Minimum Instruction Time : 0

Correct Marks : 5 Wrong Marks : 1

Question Key Details :

Key	Value
Comprehension	MCQ

ಕೆಳಗಿನವರಲ್ಲಿ 917-1922 ವರ್ಷಗಳಲ್ಲಿ ಗಾಂಧಿಯವರ ನಿರೂಪಿಸಿದ ಸಹವರ್ತಿಗಳಾಗಿದ್ದರು:

- A. ವಲ್ಲಭಭಾಯಿ ಪಟೇಲ್
- B. ಸುಭಾಷ್ ಚಂದ್ರ ಬೋಸ್
- C. ಅನಿ ಬೆಸೆಂಟ್
- D. ಗೋವಿಂದ ವಲ್ಲಭ್ ಪಂತ್
- E. ಬಿ.ಆರ್. ಅಂಬೇಡ್ಕರ್

ಈ ಕೆಳಗಿನ ಆಯ್ಕೆಗಳಿಂದ ಸರಿಯಾದ ಉತ್ತರವನ್ನು ಆರಿಸಿ:

- 1. A, C, E ಮಾತ್ರ
- 2. A, B, E ಮಾತ್ರ
- 3. B, D, C ಮಾತ್ರ
- 4. A, B, D ಮಾತ್ರ

Options :

- 485584146065. 1
- 485584146066. 2
- 485584146067. 3
- 485584146068. 4

Question Number : 133 Question Id : 48558436518 Question Type : MCQ Option Shuffling : No Is Question Mandatory : No Calculator : None Response Time : N.A Think Time : N.A Minimum Instruction Time : 0

Correct Marks : 5 Wrong Marks : 1

Question Key Details :

Key	Value
Comprehension	MCQ

Match List I with List II:

LIST I		LIST II	
A.	Dandi March	I.	1917
B.	Khilafat Movement	II.	1942
C.	Quit India Movement	III.	1921
D.	Champaran Movement	IV.	1930

Choose the correct answer from the options given below:

- 1. A-I, B-II, C-III, D-IV
- 2. A-II, B-IV, C-I, D-III
- 3. A-IV, B-III, C-II, D-I
- 4. A-III, B-IV, C-I, D-II

Options :

- 485584146069. 1
- 485584146070. 2
- 485584146071. 3

Question Number : 133 Question Id : 48558436518 Question Type : MCQ Option Shuffling : No Is Question Mandatory : No Calculator : None Response Time : N.A Think Time : N.A Minimum Instruction Time : 0

Correct Marks : 5 Wrong Marks : 1

Question Key Details :

Key	Value
Comprehension	MCQ

ಪಟ್ಟಿ - I ಅನ್ನು ಪಟ್ಟಿ - IIರ ಜೊತೆ ಹೊಂದಿಸಿ.

ಪಟ್ಟಿ - I		ಪಟ್ಟಿ - II	
A.	ದಂಡಿ ಯಾತ್ರೆ	I.	1917
B.	ಬಿಲಾಫತ್ ಚಳುವಳಿ	II.	1942
C.	ಕ್ವಿಟ್ ಇಂಡಿಯಾ ಚಳುವಳಿ	III.	1921
D.	ಚಂಪಾರನ್ ಚಳುವಳಿ	IV.	1930

ಈ ಕೆಳಗಿನ ಆಯ್ಕೆಗಳಿಂದ ಸರಿಯಾದ ಉತ್ತರವನ್ನು ಆರಿಸಿ:

1. A-I, B-II, C-III, D-IV
2. A-II, B-IV, C-I, D-III
3. A-IV, B-III, C-II, D-I
4. A-III, B-IV, C-I, D-II

Options :

485584146069. 1
485584146070. 2
485584146071. 3
485584146072. 4

Question Number : 134 Question Id : 48558436519 Question Type : MCQ Option Shuffling : No Is Question Mandatory : No Calculator : None Response Time : N.A Think Time : N.A Minimum Instruction Time : 0

Correct Marks : 5 Wrong Marks : 1

Question Key Details :

Key	Value
Comprehension	MCQ

Chronologically arrange the following movements led by Mahatma Gandhi.

- A. Rowlatt Satyagraha
- B. Kheda Movement
- C. Champaran Satyagraha
- D. Ahmedabad Mill Strike
- E. Dandi March

Choose the correct answer from the options given below:

- 1. A, B, C, D, E
- 2. B, D, C, A, E
- 3. C, D, B, A, E
- 4. C, A, B, D, E

Options :

- 485584146073. 1
- 485584146074. 2
- 485584146075. 3
- 485584146076. 4

Question Number : 134 Question Id : 48558436519 Question Type : MCQ Option Shuffling : No Is Question Mandatory : No Calculator : None Response Time : N.A Think Time : N.A Minimum Instruction Time : 0

Correct Marks : 5 Wrong Marks : 1

Question Key Details :

Key	Value
Comprehension	MCQ

ಮಹಾತ್ಮಾ ಗಾಂಧಿಯವರ ನೇತೃತ್ವದಲ್ಲಿ ಈ ಕೆಳಗಿನ ಚಳುವಳಿಗಳನ್ನು ಕಾಲಾನುಕ್ರಮವಾಗಿ ಜೋಡಿಸಿ.

- A. ರೌಲಟ್ ಸತ್ಯಾಗ್ರಹ
- B. ಖೇಡಾ ಚಳುವಳಿ
- C. ಚಂಪಾರನ್ ಸತ್ಯಾಗ್ರಹ
- D. ಅಹ್ಮದಾಬಾದ್ ಮಿಲ್ ಸ್ಟ್ರೈಕ್
- E. ದಂಡಿ ಯಾತ್ರೆ

ಈ ಕೆಳಗಿನ ಆಯ್ಕೆಗಳಿಂದ ಸರಿಯಾದ ಉತ್ತರವನ್ನು ಆರಿಸಿ:

- 1. A, B, C, D, E
- 2. B, D, C, A, E
- 3. C, D, B, A, E
- 4. C, A, B, D, E

Options :

- 485584146073. 1
- 485584146074. 2
- 485584146075. 3

485584146076.4

Question Number : 135 Question Id : 48558436520 Question Type : MCQ Option Shuffling : No Is Question Mandatory : No Calculator : None Response Time : N.A Think Time : N.A Minimum Instruction Time : 0

Correct Marks : 5 Wrong Marks : 1

Question Key Details :

Key	Value
Comprehension	MCQ

The 'Hindu Mahasabha' was founded in _____.

1. 1917

2. 1915

3. 1916

4. 1919

Options :

485584146077. 1

485584146078. 2

485584146079. 3

485584146080. 4

Question Number : 135 Question Id : 48558436520 Question Type : MCQ Option Shuffling : No Is Question Mandatory : No Calculator : None Response Time : N.A Think Time : N.A Minimum Instruction Time : 0

Correct Marks : 5 Wrong Marks : 1

Question Key Details :

Key	Value
Comprehension	MCQ

ಹಿಂದೂ ಮಹಾಸಭಾವನ್ನು ಸ್ಥಾಪಿಸಲಾಗಿದ್ದು:

1. 1917

2. 1915

3. 1916

4. 1919

Options :

485584146077. 1

485584146078. 2

485584146079. 3

485584146080. 4

Question Number : 136 Question Id : 48558436521 Question Type : MCQ Option Shuffling : No Is Question Mandatory : No Calculator : None Response Time : N.A Think Time : N.A Minimum Instruction Time : 0

Correct Marks : 5 Wrong Marks : 1

Question Key Details :

Key	Value
Comprehension	MCQ

On which date did the Constituent Assembly begin its sessions?

1. 6 December 1946
2. 9 December 1946
3. 15 July 1946
4. 16 July 1946

Options :

485584146081. 1
485584146082. 2
485584146083. 3
485584146084. 4

Question Number : 136 Question Id : 48558436521 Question Type : MCQ Option Shuffling : No Is Question Mandatory : No Calculator : None Response Time : N.A Think Time : N.A Minimum Instruction Time : 0

Correct Marks : 5 Wrong Marks : 1

Question Key Details :

Key	Value
Comprehension	MCQ

ಯಾವ ದಿನಾಂಕದಂದು ಘಟಕವು ತನ್ನ ಅಧಿವೇಶನಗಳನ್ನು ಪ್ರಾರಂಭಿಸಿತು?

1. 6 ಡಿಸೆಂಬರ್ 1946
2. 9 ಡಿಸೆಂಬರ್ 1946
3. 15 ಜುಲೈ 1946
4. 16 ಜುಲೈ 1946

Options :

485584146081. 1
485584146082. 2
485584146083. 3
485584146084. 4

Question Number : 137 Question Id : 48558436522 Question Type : MCQ Option Shuffling : No Is Question Mandatory : No Calculator : None Response Time : N.A Think Time : N.A Minimum Instruction Time : 0

Correct Marks : 5 Wrong Marks : 1

Question Key Details :

Key	Value
Comprehension	MCQ

Match List I with List II:

LIST I		LIST II	
A.	Cultural and Educational Rights	I.	Articles 25-28
B.	Right to Equality	II.	Articles 17
C.	Freedom of Religion	III.	Article 14-16
D.	Abolition of Untouchability	IV.	Articles 29,30

Choose the correct answer from the options given below:

1. A-II, B-III, C-IV, D-I
2. A-IV, B-III, C-II, D-I
3. A-I, B-II, C-III, D-IV
4. A-IV, B-III, C-I, D-II

Options :

485584146085. 1
485584146086. 2
485584146087. 3
485584146088. 4

Question Number : 137 Question Id : 48558436522 Question Type : MCQ Option Shuffling : No Is Question Mandatory : No Calculator : None Response Time : N.A Think Time : N.A Minimum Instruction Time : 0

Correct Marks : 5 Wrong Marks : 1

Question Key Details :

Key	Value
Comprehension	MCQ

ಪಟ್ಟಿ - I ಅನ್ನು ಪಟ್ಟಿ - IIರ ಜೊತೆ ಹೊಂದಿಸಿ.

ಪಟ್ಟಿ - I		ಪಟ್ಟಿ - II	
A.	ಸಾಂಸ್ಕೃತಿಕ ಮತ್ತು ಶೈಕ್ಷಣಿಕ ಹಕ್ಕುಗಳು	I.	ಆರ್ಟಿಕಲ್ 25-28
B.	ಸಮಾನತೆಯ ಹಕ್ಕು	II.	ಆರ್ಟಿಕಲ್ 17
C.	ಧರ್ಮದ ಸ್ವಾತಂತ್ರ್ಯ	III.	ಆರ್ಟಿಕಲ್ 14-16
D.	ಅಸ್ಪೃಶ್ಯತೆ ನಿವಾರಣೆ	IV.	ಆರ್ಟಿಕಲ್ 29,30

ಈ ಕೆಳಗಿನ ಆಯ್ಕೆಗಳಿಂದ ಸರಿಯಾದ ಉತ್ತರವನ್ನು ಆರಿಸಿ:

1. A-II, B-III, C-IV, D-I
2. A-IV, B-III, C-II, D-I
3. A-I, B-II, C-III, D-IV
4. A-IV, B-III, C-I, D-II

Options :

485584146085. 1
485584146086. 2
485584146087. 3

Question Number : 138 Question Id : 48558436523 Question Type : MCQ Option Shuffling : No Is Question Mandatory : No Calculator : None Response Time : N.A Think Time : N.A Minimum Instruction Time : 0

Correct Marks : 5 Wrong Marks : 1

Question Key Details :

Key	Value
Comprehension	MCQ

Who were the two other lawyers serving with B.R. Ambedkar on the Drafting Committee of the Constitution?

- A. K.M. Munshi
- B. B.N Rau
- C. Alladi Krishnaswamy Aiyar
- D. S.N. Mukherjee
- E. Rajendra Prasad

Choose the **correct** answer from the options given below:

- 1. A, B only
- 2. B, C only
- 3. A, C only
- 4. D, E only

Options :

- 485584146089. 1
- 485584146090. 2
- 485584146091. 3
- 485584146092. 4

Question Number : 138 Question Id : 48558436523 Question Type : MCQ Option Shuffling : No Is Question Mandatory : No Calculator : None Response Time : N.A Think Time : N.A Minimum Instruction Time : 0

Correct Marks : 5 Wrong Marks : 1

Question Key Details :

Key	Value
Comprehension	MCQ

ಸಂವಿಧಾನದ ಕರಡು ಸಮಿತಿಯಲ್ಲಿ ಬಿ.ಆರ್. ಅಂಬೇಡ್ಕರ್ ಅವರೊಂದಿಗೆ ಸೇವೆ ಸಲ್ಲಿಸುತ್ತಿರುವ ಇತರ ಇಬ್ಬರು ವಕೀಲರು ಯಾರು?

- A. ಕೆ.ಎಂ. ಮುನ್ನಿ
- B. ಬಿ.ಎನ್. ರಾವ್
- C. ಅಲ್ಪಡಿ ಕೃಷ್ಣಸ್ವಾಮಿ ಅಯ್ಯರ್
- D. ಎಸ್.ಎನ್. ಮುಖರ್ಜಿ
- E. ರಾಜೇಂದ್ರ ಪ್ರಸಾದ್

ಈ ಕೆಳಗಿನ ಆಯ್ಕೆಗಳಿಂದ ಸರಿಯಾದ ಉತ್ತರವನ್ನು ಆರಿಸಿ:

- 1. A ಮತ್ತು B ಮಾತ್ರ
- 2. B ಮತ್ತು C ಮಾತ್ರ
- 3. A ಮತ್ತು C ಮಾತ್ರ
- 4. D ಮತ್ತು E ಮಾತ್ರ

Options :

- 485584146089. 1
- 485584146090. 2
- 485584146091. 3
- 485584146092. 4

Question Number : 139 Question Id : 48558436524 Question Type : MCQ Option Shuffling : No Is Question Mandatory : No Calculator : None Response Time : N.A Think Time : N.A Minimum Instruction Time : 0

Correct Marks : 5 Wrong Marks : 1

Question Key Details :

Key	Value
Comprehension	MCQ

Arrange the following in a chronological order:

- A. Constituent Assembly begins its session.
- B. Muslim League accepts Cabinet Mission's constitutional scheme.
- C. Muslim League decides to join the Interim Government.
- D. Muslim League announces Direct Action Day.
- E. Muslim League demands dissolution of the Constituent Assembly.

Choose the **correct** answer from the options given below:

- 1. B, D, C, A, E
- 2. B, A, D, C, E
- 3. A, B, C, D, E
- 4. D, A, E, B, C

Options :

- 485584146093. 1
- 485584146094. 2

485584146095. 3

485584146096. 4

Question Number : 139 Question Id : 48558436524 Question Type : MCQ Option Shuffling : No Is Question Mandatory : No Calculator : None Response Time : N.A Think Time : N.A Minimum Instruction Time : 0

Correct Marks : 5 Wrong Marks : 1

Question Key Details :

Key	Value
Comprehension	MCQ

ಕೆಲಗಿನವುಗಳನ್ನು ಕಾಲಾನುಕ್ರಮದಲ್ಲಿ ಜೋಡಿಸಿ?

- A. ಸಂವಿಧಾನ ಸಭೆಯು ತನ್ನ ಅಧಿವೇಶನವನ್ನು ಪ್ರಾರಂಭಿಸುತ್ತದೆ
- B. ಮುಸ್ಲಿಂ ಲೀಗ್ ಕ್ಯಾಬಿನೆಟ್ ಮಿಷನ್‌ನ ಸಾಂವಿಧಾನಿಕ ಯೋಜನೆಯನ್ನು ಒಪ್ಪಿಕೊಂಡಿತು.
- C. ಮುಸ್ಲಿಂ ಲೀಗ್ ಮಧ್ಯಂತರ ಸರ್ಕಾರಕ್ಕೆ ಸೇರಲು ನಿರ್ಧರಿಸಿದೆ.
- D. ಮುಸ್ಲಿಂ ಲೀಗ್ ನೇರ ಕ್ರಿಯೆಯ ದಿನವನ್ನು ಘೋಷಿಸಿತು.
- E. ಮುಸ್ಲಿಂ ಲೀಗ್ ಸಂವಿಧಾನ ಸಭೆಯನ್ನು ವಿಸರ್ಜಿಸಲು ಒತ್ತಾಯಿಸುತ್ತದೆ.

ಈ ಕೆಲಗಿನ ಆಯ್ಕೆಗಳಿಂದ ಸರಿಯಾದ ಉತ್ತರವನ್ನು ಆರಿಸಿ:

1. B, D, C, A, E

2. B, A, D, C, E

3. A, B, C, D, E

4. D, A, E, B, C

Options :

485584146093. 1

485584146094. 2

485584146095. 3

485584146096. 4

Question Number : 140 Question Id : 48558436525 Question Type : MCQ Option Shuffling : No Is Question Mandatory : No Calculator : None Response Time : N.A Think Time : N.A Minimum Instruction Time : 0

Correct Marks : 5 Wrong Marks : 1

Question Key Details :

Key	Value
Comprehension	MCQ

Which of the following statements are **True** for the Constituent Assembly?

- A. It was boycotted by the Muslim League.
- B. It was elected by Universal Franchise.
- C. Its members were chosen by Provincial Legislatures.
- D. Majority of its members belonged to the Socialist Party.
- E. Constituent Assembly was dominated by three parties.

Choose the **correct** answer from the options given below:

- 1. A, E only
- 2. B, D only
- 3. A, C only
- 4. B, E only

Options :

- 485584146097. 1
- 485584146098. 2
- 485584146099. 3
- 485584146100. 4

Question Number : 140 Question Id : 48558436525 Question Type : MCQ Option Shuffling : No Is Question Mandatory : No Calculator : None Response Time : N.A Think Time : N.A Minimum Instruction Time : 0

Correct Marks : 5 Wrong Marks : 1

Question Key Details :

Key	Value
Comprehension	MCQ

ಈ ಕೆಳಗಿನ ಯಾವ ಹೇಳಿಕೆಗಳು ಸಂವಿಧಾನ ಸಭೆಗೆ ನಿಜವಾಗಿವೆ?

- A. ಅದನ್ನು ಮುಸ್ಲಿಂ ಲೀಗ್ ಬಹಿಷ್ಕರಿಸಿತ್ತು.
- B. ಇದು ಸಾರ್ವತ್ರಿಕ ಪ್ರಾಂತ್ಯೀಯಿಂದ ಚುನಾಯಿತವಾಯಿತು.
- C. ಅದರ ಸದಸ್ಯರನ್ನು ಪ್ರಾಂತೀಯ ಶಾಸಕಾಂಗಗಳು ಆಯ್ಕೆ ಮಾಡುತ್ತವೆ.
- D. ಅದರ ಬಹುಪಾಲು ಸದಸ್ಯರು ಸಮಾಜವಾದಿ ಪಕ್ಷಕ್ಕೆ ಸೇರಿದವರಾಗಿದ್ದರು.
- E. ಸಂವಿಧಾನ ಸಭೆಯಲ್ಲಿ ಮೂರು ಪಕ್ಷಗಳು ಪ್ರಾಬಲ್ಯ ಹೊಂದಿದ್ದವು.

ಈ ಕೆಳಗಿನ ಆಯ್ಕೆಗಳಿಂದ ಸರಿಯಾದ ಉತ್ತರವನ್ನು ಆರಿಸಿ:

- 1. A ಮತ್ತು E ಮಾತ್ರ
- 2. B ಮತ್ತು D ಮಾತ್ರ
- 3. A ಮತ್ತು C ಮಾತ್ರ
- 4. B ಮತ್ತು E ಮಾತ್ರ

Options :

- 485584146097. 1
- 485584146098. 2
- 485584146099. 3

485584146100.4

Sub-Section Number : 2
Sub-Section Id : 4855842697
Question Shuffling Allowed : No
Is Section Default? : null

Question Number : 141 Question Id : 48558436526 Question Type : MCQ Option Shuffling : No Is Question Mandatory : No Calculator : None Response Time : N.A Think Time : N.A Minimum Instruction Time : 0

Correct Marks : 5 Wrong Marks : 1

Question Key Details :

Key	Value
Comprehension	Compl

Read the passage and answer the questions :

According to Buddhist philosophy, the world is transient (anicca) and constantly changing; it is also soulless (anatta) as there is nothing permanent or eternal in it. Within this transient world, sorrow (dukkha) is intrinsic to human existence. It is by following the path of moderation between severe penance and self-indulgence that human beings can rise above these worldly troubles. In the earliest forms of Buddhism whether or not god existed was irrelevant.

Which of the following statement is **NOT True** regarding the Buddhist philosophy?

1. The world is transient and constantly changing.
2. Sorrow is intrinsic to human existence.
3. Humans can rise above sorrow by following the path of severe penance and self-indulgence.
4. The world is soulless as there is nothing permanent or eternal in it.

Options :

- 485584146101. 1
- 485584146102. 2
- 485584146103. 3
- 485584146104. 4

Question Number : 141 Question Id : 48558436526 Question Type : MCQ Option Shuffling : No Is Question Mandatory : No Calculator : None Response Time : N.A Think Time : N.A Minimum Instruction Time : 0

Correct Marks : 5 Wrong Marks : 1

Question Key Details :

Key	Value
Comprehension	Compl

ಭಾಗವನ್ನು ಓದಿ ಮತ್ತು ಪ್ರಶ್ನೆಗಳಿಗೆ ಉತ್ತರಿಸಿ (41-45)

ಬೌದ್ಧ ತತ್ವಶಾಸ್ತ್ರದ ಪ್ರಕಾರ, ಪದವು ಕ್ಷಣಿಕವಾಗಿದೆ (ಅನಿಕ್ಕಾ) ಮತ್ತು ನಿರಂತರವಾಗಿ ಬದಲಾಗುತ್ತಿದೆ. ಅದರಲ್ಲಿ ಶಾಶ್ವತ ಅಥವಾ ಸನಾತನವಾದ ಯಾವುದೂ ಇಲ್ಲದಿರುವುದರಿಂದ ಅದು ಆತ್ಮರಹಿತವಾಗಿದೆ (ಅನತ್ತ). ಈ ಕ್ಷಣಿಕ ಜಗತ್ತಿನಲ್ಲಿ ದುಃಖ ಮಾನವ ಅಸ್ತಿತ್ವಕ್ಕೆ ಅಂತರ್ಗತವಾಗಿರುತ್ತದೆ. ಕಠಿಣವಾದ ತಪಸ್ಸು ಮತ್ತು ಸ್ವಯಂ ಭೋಗದ ನಡುವಿನ ಮಿತವಾದ ಮಾರ್ಗವನ್ನು ಅನುಸರಿಸುವ ಮೂಲಕ ಮಾನವರು ಈ ಲೌಕಿಕ ತೊಂದರೆಗಳನ್ನು ಮೀರಬಹುದು. ಬೌದ್ಧ ಧರ್ಮದ ಆರಂಭಿಕ ರೂಪಗಳಲ್ಲಿ ದೇವರು ಇದ್ದಾನೋ ಇಲ್ಲವೋ ಎಂಬುದು ಅಪ್ರಸ್ತುತವಾಗಿತ್ತು.

ಬೌದ್ಧ ಮತ್ತು ತತ್ವಶಾಸ್ತ್ರಕ್ಕೆ ಸಂಬಂಧಿಸಿದಂತೆ ಈ ಕೆಳಗಿನ ಯಾವ ಹೇಳಿಕೆಯು ನಿಜವಲ್ಲ?

1. ಪ್ರಪಂಚವು ಕ್ಷಣಿಕ ಮತ್ತು ನಿರಂತರವಾಗಿ ಬದಲಾಗುತ್ತಿದೆ.
2. ದುಃಖವು ಮಾನವ ಅಸ್ತಿತ್ವದಲ್ಲಿ ಅಂತರ್ಗತವಾಗಿರುತ್ತದೆ.
3. ಕಠಿಣ ತಪಸ್ಸು ಮತ್ತು ಸ್ವಯಂ ಭೋಗದ ಮಾರ್ಗಗಳನ್ನು ಅನುಸರಿಸುವ ಮೂಲಕ ಮಾನವರು ದುಃಖದಿಂದ ಮೇಲೇರಬಹುದು.
4. ಪ್ರಪಂಚವು ಆತ್ಮರಹಿತವಾಗಿದೆ. ಏಕೆಂದರೆ, ಅದರಲ್ಲಿ ಶಾಶ್ವತ ಅಥವಾ ಸನಾತನವಾದ ಯಾವುದೂ ಇಲ್ಲ.

Options :

485584146101. 1
485584146102. 2
485584146103. 3
485584146104. 4

Question Number : 142 Question Id : 48558436527 Question Type : MCQ Option Shuffling : No Is Question Mandatory : No Calculator : None Response Time : N.A Think Time : N.A Minimum Instruction Time : 0

Correct Marks : 5 Wrong Marks : 1

Question Key Details :

Key	Value
Comprehension	Comp1

Read the passage and answer the questions :

According to Buddhist philosophy, the world is transient (anicca) and constantly changing; it is also soulless (anatta) as there is nothing permanent or eternal in it. Within this transient world, sorrow (dukkha) is intrinsic to human existence. It is by following the path of moderation between severe penance and self indulgence that human beings can rise above these worldly troubles. In the earliest forms of Buddhism whether or not god existed was irrelevant.

Which of the following idea is NOT a part of the teachings of the Buddha?

1. Importance of right conduct and values.
2. Claims of superiority based on birth.
3. Metta (fellow feeling).
4. Karma (compassion).

Options :

485584146105. 1
485584146106. 2
485584146107. 3
485584146108. 4

Question Number : 142 Question Id : 48558436527 Question Type : MCQ Option Shuffling : No Is Question Mandatory : No Calculator : None Response Time : N.A Think Time : N.A Minimum Instruction Time : 0

Correct Marks : 5 Wrong Marks : 1

Question Key Details :

Key	Value
Comprehension	Comp1

ಭಾಗವನ್ನು ಓದಿ ಮತ್ತು ಪ್ರಶ್ನೆಗಳಿಗೆ ಉತ್ತರಿಸಿ (41-45)
ಬೌದ್ಧ ತತ್ವಶಾಸ್ತ್ರದ ಪ್ರಕಾರ, ಪದವು ಕ್ಷಣಿಕವಾಗಿದೆ (ಅನಿಶ್ಚಿತ) ಮತ್ತು ನಿರಂತರವಾಗಿ ಬದಲಾಗುತ್ತಿದೆ. ಅದರಲ್ಲಿ ಶಾಶ್ವತ ಅಥವಾ ಸನಾತನವಾದ ಯಾವುದೂ ಇಲ್ಲದಿರುವುದರಿಂದ ಅದು ಆತ್ಮರಹಿತವಾಗಿದೆ (ಅನತ್ಮ). ಈ ಕ್ಷಣಿಕ ಜಗತ್ತಿನಲ್ಲಿ ದುಃಖ ಮಾನವ ಆಸ್ತಿತ್ವಕ್ಕೆ ಅಂತರ್ಗತವಾಗಿರುತ್ತದೆ. ಕಠಿಣವಾದ ತಪಸ್ಸು ಮತ್ತು ಸ್ವಯಂ ಭೋಗದ ನಡುವಿನ ಮಿತವಾದ ಮಾರ್ಗವನ್ನು ಅನುಸರಿಸುವ ಮೂಲಕ ಮಾನವರು ಈ ಲೌಕಿಕ ತೊಂದರೆಗಳನ್ನು ಮೀರಬಹುದು. ಬೌದ್ಧ ಧರ್ಮದ ಆರಂಭಿಕ ರೂಪಗಳಲ್ಲಿ ದೇವರು ಇದ್ದಾನೋ ಇಲ್ಲವೋ ಎಂಬುದು ಅಪ್ರಸ್ತುತವಾಗಿತ್ತು.

ಕೆಳಗಿನ ಯಾವ ಕಲ್ಪನೆಯು ಬುದ್ಧನ ಬೋಧನೆಗಳ ಭಾಗವಾಗಿಲ್ಲ?

1. ಸರಿಯಾದ ನಡವಳಿಕೆ ಮತ್ತು ಮೌಲ್ಯಗಳ ಪ್ರಾಮುಖ್ಯತೆ
2. ಜನ್ಮದ ಆಧಾರದ ಮೇಲೆ ಶ್ರೇಷ್ಠತೆಯ ಹಕ್ಕುಗಳು
3. ಮೆಟ್ರಾ (ಸಹಭಾವನೆ)
4. ಕರುಣಾ (ಕರುಣೆ)

Options :

485584146105. 1
485584146106. 2
485584146107. 3
485584146108. 4

Question Number : 143 Question Id : 48558436528 Question Type : MCQ Option Shuffling : No Is Question Mandatory : No Calculator : None Response Time : N.A Think Time : N.A Minimum Instruction Time : 0

Correct Marks : 5 Wrong Marks : 1

Question Key Details :

Key	Value
Comprehension	Compl

Read the passage and answer the questions :

According to Buddhist philosophy, the world is transient (anicca) and constantly changing; it is also soulless (anatta) as there is nothing permanent or eternal in it. Within this transient world, sorrow (dukkha) is intrinsic to human existence. It is by following the path of moderation between severe penance and self indulgence that human beings can rise above these worldly troubles. In the earliest forms of Buddhism whether or not god existed was irrelevant.

In Buddhism, the followers of the older tradition, who followed the old path and respected teachers, described themselves as:

1. Theravadins
2. Mahayanas
3. Taravadins
4. Tantrics

Options :

485584146109. 1
485584146110. 2
485584146111. 3
485584146112. 4

Question Number : 143 Question Id : 48558436528 Question Type : MCQ Option Shuffling : No Is Question Mandatory : No Calculator : None Response Time : N.A Think Time : N.A Minimum Instruction Time : 0

Correct Marks : 5 Wrong Marks : 1

Question Key Details :

Key	Value
Comprehension	Compl

ಭಾಗವನ್ನು ಓದಿ ಮತ್ತು ಪ್ರಶ್ನೆಗಳಿಗೆ ಉತ್ತರಿಸಿ (41-45)

ಬೌದ್ಧ ತತ್ವಶಾಸ್ತ್ರದ ಪ್ರಕಾರ, ಪದವು ಕ್ಷಣಿಕವಾಗಿದೆ (ಅನಿಕಾ) ಮತ್ತು ನಿರಂತರವಾಗಿ ಬದಲಾಗುತ್ತಿದೆ. ಅದರಲ್ಲಿ ಶಾಶ್ವತ ಅಥವಾ ಸನಾತನವಾದ ಯಾವುದೂ ಇಲ್ಲದಿರುವುದರಿಂದ ಅದು ಆತ್ಮರಹಿತವಾಗಿದೆ (ಅನತ್ತ). ಈ ಕ್ಷಣಿಕ ಜಗತ್ತಿನಲ್ಲಿ ದುಃಖ ಮಾನವ ಆಸ್ತಿತ್ವಕ್ಕೆ ಅಂತರ್ಗತವಾಗಿರುತ್ತದೆ. ಕಠಿಣವಾದ ತಪಸ್ಸು ಮತ್ತು ಸ್ವಯಂ ಭೋಗದ ನಡುವಿನ ಮಿತವಾದ ಮಾರ್ಗವನ್ನು ಅನುಸರಿಸುವ ಮೂಲಕ ಮಾನವರು ಈ ಲೌಕಿಕ ತೊಂದರೆಗಳನ್ನು ಮೀರಬಹುದು. ಬೌದ್ಧ ಧರ್ಮದ ಆರಂಭಿಕ ರೂಪಗಳಲ್ಲಿ ದೇವರು ಇದ್ದಾನೋ ಇಲ್ಲವೋ ಎಂಬುದು ಅಪ್ರಸ್ತುತವಾಗಿತ್ತು.

ಬೌದ್ಧ ಧರ್ಮದಲ್ಲಿ, ಹಳೆಯ ಸಂಪ್ರದಾಯದ ಅನುಯಾಯಿಗಳು, ಅವರು ಹಳೆಯ ಮಾರ್ಗವನ್ನು ಅನುಸರಿಸಿದರು ಮತ್ತು ಗೌರವಾನ್ವಿತ ಶಿಕ್ಷಕರನ್ನು ತಮ್ಮನ್ನು ತಾವು ವಿವರಿಸುತ್ತಾರೆ:

1. ತೇರವಾದಿನ್ಯ
2. ಮಹಾಯಾನಾಸ್
3. ತಾರಾವಾದಿನ್ಯ
4. ಟ್ಯಾಂಟ್ರಿಕ್ಸ್

Options :

485584146109. 1
485584146110. 2
485584146111. 3
485584146112. 4

Question Number : 144 Question Id : 48558436529 Question Type : MCQ Option Shuffling : No Is Question Mandatory : No Calculator : None Response Time : N.A Think Time : N.A Minimum Instruction Time : 0

Correct Marks : 5 Wrong Marks : 1

Question Key Details :

Key	Value
Comprehension	Comp1

Read the passage and answer the questions :

According to Buddhist philosophy, the world is transient (anicca) and constantly changing; it is also soulless (anatta) as there is nothing permanent or eternal in it. Within this transient world, sorrow (dukkha) is intrinsic to human existence. It is by following the path of moderation between severe penance and self indulgence that human beings can rise above these worldly troubles. In the earliest forms of Buddhism whether or not god existed was irrelevant.

Where did Gautama Buddha attain 'nibbana'?

1. Lumbini
2. Rajgriha
3. Samath
4. Kusinagara

Options :

485584146113. 1
485584146114. 2
485584146115. 3
485584146116. 4

Question Number : 144 Question Id : 48558436529 Question Type : MCQ Option Shuffling : No Is Question Mandatory : No Calculator : None Response Time : N.A Think Time : N.A Minimum Instruction Time : 0

Correct Marks : 5 Wrong Marks : 1

Question Key Details :

Key	Value
Comprehension	Compl

ಭಾಗವನ್ನು ಓದಿ ಮತ್ತು ಪ್ರಶ್ನೆಗಳಿಗೆ ಉತ್ತರಿಸಿ (41-45)

ಬೌದ್ಧ ತತ್ವಶಾಸ್ತ್ರದ ಪ್ರಕಾರ, ಪದವು ಕ್ಷಣಿಕವಾಗಿದೆ (ಅನಿಕಾ) ಮತ್ತು ನಿರಂತರವಾಗಿ ಬದಲಾಗುತ್ತಿದೆ. ಅದರಲ್ಲಿ ಶಾಶ್ವತ ಅಥವಾ ಸನಾತನವಾದ ಯಾವುದೂ ಇಲ್ಲದಿರುವುದರಿಂದ ಅದು ಆತ್ಮರಹಿತವಾಗಿದೆ (ಅನತ್ತ). ಈ ಕ್ಷಣಿಕ ಜಗತ್ತಿನಲ್ಲಿ ದುಃಖ ಮಾನವ ಆಸ್ತಿತ್ವಕ್ಕೆ ಅಂತರ್ಗತವಾಗಿರುತ್ತದೆ. ಕಠಿಣವಾದ ತಪಸ್ಸು ಮತ್ತು ಸ್ವಯಂ ಭೋಗದ ನಡುವಿನ ಮಿತವಾದ ಮಾರ್ಗವನ್ನು ಅನುಸರಿಸುವ ಮೂಲಕ ಮಾನವರು ಈ ಲೌಕಿಕ ತೊಂದರೆಗಳನ್ನು ಮೀರಬಹುದು. ಬೌದ್ಧ ಧರ್ಮದ ಆರಂಭಿಕ ರೂಪಗಳಲ್ಲಿ ದೇವರು ಇದ್ದಾನೋ ಇಲ್ಲವೋ ಎಂಬುದು ಅಪ್ರಸ್ತುತವಾಗಿತ್ತು.

ಗೌತಮ ಬುದ್ಧನು ಎಲ್ಲಿ ನಿರ್ವಾಣವನ್ನು ಪಡೆದನು?

1. ಲುಂಬಿನಿ
2. ರಾಜಗೃಹ
3. ಸಾರನಾಥ
4. ಋಷಿನಗರ

Options :

485584146113. 1
485584146114. 2
485584146115. 3
485584146116. 4

Question Number : 145 Question Id : 48558436530 Question Type : MCQ Option Shuffling : No Is Question Mandatory : No Calculator : None Response Time : N.A Think Time : N.A Minimum Instruction Time : 0

Correct Marks : 5 Wrong Marks : 1

Question Key Details :

Key	Value
Comprehension	Compl

Read the passage and answer the questions :

According to Buddhist philosophy, the world is transient (anicca) and constantly changing; it is also soulless (anatta) as there is nothing permanent or eternal in it. Within this transient world, sorrow (dukkha) is intrinsic to human existence. It is by following the path of moderation between severe penance and self indulgence that human beings can rise above these worldly troubles. In the earliest forms of Buddhism whether or not god existed was irrelevant.

Which of the following statements are **True** about the teachings of Buddha?

- A. The Buddha regarded the social world as of divine origin.
- B. The Buddha advised kings and gahapatis to be humane and ethical.
- C. The Buddha believed that collective effort was required to transform social relations.
- D. The Buddha emphasised individual agency and righteous action to escape from the cycle of birth.
- E. The Buddha asserted that the extinguishing of ego and desire would end the cycle of suffering.

Choose the **correct** answer from the options given below:

- 1. C, D, E only
- 2. B, C, D only
- 3. A, B, D only
- 4. B, D, E only

Options :

- 485584146117. 1
- 485584146118. 2
- 485584146119. 3
- 485584146120. 4

Question Number : 145 Question Id : 48558436530 Question Type : MCQ Option Shuffling : No Is Question Mandatory : No Calculator : None Response Time : N.A Think Time : N.A Minimum Instruction Time : 0

Correct Marks : 5 Wrong Marks : 1

Question Key Details :

Key	Value
Comprehension	Comp1

ಭಾಗವನ್ನು ಓದಿ ಮತ್ತು ಪ್ರಶ್ನೆಗಳಿಗೆ ಉತ್ತರಿಸಿ (41-45)

ಬೌದ್ಧ ತತ್ವಶಾಸ್ತ್ರದ ಪ್ರಕಾರ, ಪದವು ಕ್ಷಣಿಕವಾಗಿದೆ (ಅನಿಶ್ಚಿತ) ಮತ್ತು ನಿರಂತರವಾಗಿ ಬದಲಾಗುತ್ತಿದೆ. ಅದರಲ್ಲಿ ಶಾಶ್ವತ ಅಥವಾ ಸನಾತನವಾದ ಯಾವುದೂ ಇಲ್ಲದಿರುವುದರಿಂದ ಅದು ಆತ್ಮರಹಿತವಾಗಿದೆ (ಅನತ್ಮ). ಈ ಕ್ಷಣಿಕ ಜಗತ್ತಿನಲ್ಲಿ ದುಃಖ ಮಾನವ ಆಸ್ತಿತ್ವಕ್ಕೆ ಅಂತರ್ಗತವಾಗಿರುತ್ತದೆ. ಕಠಿಣವಾದ ತಪಸ್ಸು ಮತ್ತು ಸ್ವಯಂ ಭೋಗದ ನಡುವಿನ ಮಿತವಾದ ಮಾರ್ಗವನ್ನು ಅನುಸರಿಸುವ ಮೂಲಕ ಮಾನವರು ಈ ಲೌಕಿಕ ತೊಂದರೆಗಳನ್ನು ಮೀರಬಹುದು. ಬೌದ್ಧ ಧರ್ಮದ ಆರಂಭಿಕ ರೂಪಗಳಲ್ಲಿ ದೇವರು ಇದ್ದಾನೋ ಇಲ್ಲವೋ ಎಂಬುದು ಅಪ್ರಸ್ತುತವಾಗಿತ್ತು.

ಬುದ್ಧನ ಬೋಧನೆಗಳ ಬಗ್ಗೆ ಈ ಕೆಳಗಿನ ಯಾವ ಹೇಳಿಕೆಗಳು ಸರಿಯಾಗಿವೆ?

- A. ಬುದ್ಧನು ಸಾಮಾಜಿಕ ಜಗತ್ತನ್ನು ದೈವಿಕ ಮೂಲವೆಂದು ಪರಿಗಣಿಸಿದನು.
- B. ಬುದ್ಧನು ರಾಜರು ಮತ್ತು ಗುರುಗಳಿಗೆ ಮಾನವೀಯ ಮತ್ತು ನೀತಿವಂತರಾಗಲು ಸಲಹೆ ನೀಡಿದನು.
- C. ಸಾಮಾಜಿಕ ಸಂಬಂಧಗಳನ್ನು ಪರಿವರ್ತಿಸಲು ಸಾಮೂಹಿಕ ಪ್ರಯತ್ನದ ಅಗತ್ಯವಿದೆ ಎಂದು ಬುದ್ಧನು ನಂಬಿದ್ದನು.
- D. ಬುದ್ಧನು ಜನ್ಮಚಕ್ರದಿಂದ ತಪ್ಪಿಸಿಕೊಳ್ಳಲು ವೈಯಕ್ತಿಕ ಸಂಸ್ಥೆ ಮತ್ತು ನೀತಿವಂತ ಕ್ರಮಗಳನ್ನು ಒತ್ತಿ ಹೇಳಿದನು.
- E. ಬುದ್ಧನು ಅಹಂಕಾರ ಮತ್ತು ಬಯಕೆಯನ್ನು ಸಂದಿಸುವುದು ದುಃಖದ ಚಕ್ರವನ್ನು ಕೊನೆಗೊಳಿಸುತ್ತದೆ ಎಂದು ಪ್ರತಿಪಾದಿಸಿದನು.

ಈ ಕೆಳಗಿನ ಆಯ್ಕೆಗಳಿಂದ ಸರಿಯಾದ ಉತ್ತರವನ್ನು ಆರಿಸಿ:

- 1. C, D, E ಮಾತ್ರ
- 2. B, C, D ಮಾತ್ರ
- 3. A, B, D ಮಾತ್ರ
- 4. B, D, E ಮಾತ್ರ

Options :

- 485584146117. 1
- 485584146118. 2
- 485584146119. 3
- 485584146120. 4

Sub-Section Number :

3

Sub-Section Id :

4855842698

Question Shuffling Allowed :

No

Is Section Default? :

null

Question Number : 146 Question Id : 48558436531 Question Type : MCQ Option Shuffling : No Is Question Mandatory : No Calculator : None Response Time : N.A Think Time : N.A Minimum Instruction Time : 0

Correct Marks : 5 Wrong Marks : 1

Question Key Details :

Key	Value
Comprehension	Comp2

Read the passage and answer the questions :

Section I - Regarding Zemindars. It is evident that the British Government in making zemindary settlement have imposed exorbitant *Jumas* (revenue demand) and have disgraced and ruined several Zemindars by putting up their estates for public auction for arrears of rent, in so much, in the institution of a suit by a common Ryot, a maid servant or a slave, the respectable Zemindars are summoned into court, arrested, put in goal and disgraced. In litigation regarding Zemindaries, the immense value of stamps, and other unnecessary expenses of the civil courts,... are all calculated to impoverish the litigants. Besides this, the coffers of the Zemindars are annually taxed with the subscription for schools, hospitals, roads, etc. Such extortions will have no manner of existence in the Badshahi Government; but on the contrary the *Jumas* will be light, the dignity and honour of the Zemindars safe, and every Zemindar will have absolute rule in his own Zemindary...

This excerpt has been taken from:

1. Bijnaur Proclamation of 1857
2. Kanpur Proclamation of 1857
3. Azamgarh Proclamation of 1857
4. Lucknow Proclamation of 1857

Options :

485584146121. 1
485584146122. 2
485584146123. 3
485584146124. 4

Question Number : 146 Question Id : 48558436531 Question Type : MCQ Option Shuffling : No Is Question Mandatory : No Calculator : None Response Time : N.A Think Time : N.A Minimum Instruction Time : 0

Correct Marks : 5 Wrong Marks : 1

Question Key Details :

Key	Value
Comprehension	Comp2

ಭಾಗವನ್ನು ಓದಿ ಮತ್ತು ಪ್ರಶ್ನೆಗಳಿಗೆ ಉತ್ತರಿಸಿ.

ಸೆಕ್ಷನ್ I - ಜಮೀನ್ದಾರಿಗಳಿಗೆ ಸಂಬಂಧಿಸಿದಂತೆ ಬ್ರಿಟಿಷ್ ಸರ್ಕಾರವು ಜಮೀನ್ದಾರಿ ವಸಾಹತು ಮಾಡುವಲ್ಲಿ ವಿಪರೀತ ಜುಮಾಗಳನ್ನು ವಿಧಿಸಿದೆ (ಆದಾಯ ಬೇಡಿಕೆ) ಮತ್ತು ಹಲವಾರು ಜಮೀನ್ದಾರರನ್ನು ಅವಮಾನಗೊಳಿಸಿದೆ ಮತ್ತು ಅವರ ಎಸ್ಟೇಟ್‌ಗಳನ್ನು ಬಾಡಿಗೆಗೆ ಬಾಕಿಗಾಗಿ ಸಾರ್ವಜನಿಕ ಹರಾಜಿಗೆ ಹಾಕುವ ಮೂಲಕ ಶಾಳು ಮಾಡಿದೆ ಎಂದು ಸ್ಪಷ್ಟವಾಗಿದೆ. ಸಾಮಾನ್ಯ ರಯೋಟ್, ಒಬ್ಬ ಸೇವಕಿ, ಸೇವಕ ಅಥವಾ ಗುಲಾಮರಿಂದ ದಾವೆಯ ಸಂಸ್ಥೆಯಲ್ಲಿ ಗೌರವಾನ್ವಿತ ಜಮೀನ್ದಾರ್‌ಗಳನ್ನು ನ್ಯಾಯಾಲಯಕ್ಕೆ ಕರೆಸಲಾಗುತ್ತದೆ, ಬಂಧಿಸಲಾಗುತ್ತದೆ, ಗುರಿಯಲ್ಲಿ ಇರಿಸಲಾಗುತ್ತದೆ ಮತ್ತು ಅವಮಾನಿಸಲಾಗುತ್ತದೆ. ಎಲ್ಲವೂ ದಾವೆದಾರರನ್ನು ಬಡವರನ್ನಾಗಿ ಮಾಡಲು ಲೆಕ್ಕ ಹಾಕಲಾಗಿದೆ. ಇದಲ್ಲದೆ, ಶಾಲೆಗಳು, ಆಸ್ಪತ್ರೆಗಳು, ಜಮೀನ್ದಾರಿಗಳ ಬೋಕುಸಕ್ಕೆ ವಾರ್ಷಿಕವಾಗಿ ತೆರಿಗೆ ವಿಧಿಸಲಾಗುತ್ತದೆ. ಇಂತಹ ಸುಲಿಗೆಗಳು ಬಾದಶಾಹಿ ಸರ್ಕಾರದಲ್ಲಿ ಅಸ್ತಿತ್ವವನ್ನು ಹೊಂದಿರುವುದಿಲ್ಲ. ಇದಕ್ಕೆ ವ್ಯತಿರಿಕ್ತವಾಗಿ ಜುಮಾಗಳು ಹಗುರವಾಗಿರುತ್ತವೆ. ಜಮೀನ್ದಾರಿಗಳ ಘನತೆ ಮತ್ತು ಗೌರವವು ಸುರಕ್ಷಿತವಾಗಿರುತ್ತದೆ ಮತ್ತು ಪ್ರತಿ ಜಮೀನ್ದಾರಿ ತನ್ನದೇ ಆದ ಜಮೀನ್ದಾರಿಯಲ್ಲಿ ಸಂಪೂರ್ಣ ಆಡಳಿತವನ್ನು ಹೊಂದಿರುತ್ತಾನೆ.

ಈ ಉದ್ಧರಣವನ್ನು ತೆಗೆದುಕೊಳ್ಳಲಾಗಿದೆ:

1. 1857ರ ಬಿಜ್ನಾರ್ ಘೋಷಣೆ
2. 1857ರ ಕಾನ್ಪುರ್ ಘೋಷಣೆ
3. 1857ರ ಅಜಂಗರ ಘೋಷಣೆ
4. 1857ರ ಲಕನೌ ಘೋಷಣೆ

Options :

485584146121. 1
485584146122. 2
485584146123. 3

Question Number : 147 Question Id : 48558436532 Question Type : MCQ Option Shuffling : No Is Question Mandatory : No Calculator : None Response Time : N.A Think Time : N.A Minimum Instruction Time : 0

Correct Marks : 5 Wrong Marks : 1

Question Key Details :

Key	Value
Comprehension	Comp2

Read the passage and answer the questions :

Section I - Regarding Zemindars. It is evident that the British Government in making zemindary settlement have imposed exorbitant *Jumas* (revenue demand) and have disgraced and ruined several Zemindars by putting up their estates for public auction for arrears of rent, in so much, in the institution of a suit by a common Ryot, a maid servant or a slave, the respectable Zemindars are summoned into court, arrested, put in goal and disgraced. In litigation regarding Zemindaries, the immense value of stamps, and other unnecessary expenses of the civil courts,... are all calculated to impoverish the litigants. Besides this, the coffers of the Zemindars are annually taxed with the subscription for schools, hospitals, roads, etc. Such extortions will have no manner of existence in the Badshahi Government; but on the contrary the *Jumas* will be light, the dignity and honour of the Zemindars safe, and every Zemindar will have absolute rule in his own Zemindary...

"Section I" of the Proclamation addresses to which class?

1. Service gentry class
2. Land holding class
3. Merchant-commercial class
4. Artisans and peasants

Options :

- 485584146125. 1
- 485584146126. 2
- 485584146127. 3
- 485584146128. 4

Question Number : 147 Question Id : 48558436532 Question Type : MCQ Option Shuffling : No Is Question Mandatory : No Calculator : None Response Time : N.A Think Time : N.A Minimum Instruction Time : 0

Correct Marks : 5 Wrong Marks : 1

Question Key Details :

Key	Value
Comprehension	Comp2

ಭಾಗವನ್ನು ಓದಿ ಮತ್ತು ಪ್ರಶ್ನೆಗಳಿಗೆ ಉತ್ತರಿಸಿ.

ಸೆಕ್ಷನ್ I - ಜಮೀನ್ದಾರಿಗಳಿಗೆ ಸಂಬಂಧಿಸಿದಂತೆ ಬ್ರಿಟಿಷ್ ಸರ್ಕಾರವು ಜಮೀನ್ದಾರಿ ವಸಾಹತು ಮಾಡುವಲ್ಲಿ ವಿಪರೀತ ಜುಮಾಗಳನ್ನು ವಿಧಿಸಿದೆ (ಆದಾಯ ಬೇಡಿಕೆ) ಮತ್ತು ಹಲವಾರು ಜಮೀನ್ದಾರರನ್ನು ಅವಮಾನಗೊಳಿಸಿದೆ ಮತ್ತು ಅವರ ಎಸ್ಟೇಟ್‌ಗಳನ್ನು ಬಾಡಿಗೆಗೆ ಬಾಕಿಗಾಗಿ ಸಾರ್ವಜನಿಕ ಹರಾಜಿಗೆ ಹಾಕುವ ಮೂಲಕ ಹಾಳು ಮಾಡಿದೆ ಎಂದು ಸ್ಪಷ್ಟವಾಗಿದೆ. ಸಾಮಾನ್ಯ ರಯೋಟೆಸ್, ಒಬ್ಬ ಸೇವಕಿ, ಸೇವಕ ಅಥವಾ ಗುಲಾಮರಿಂದ ದಾವೆಯ ಸಂಸ್ಥೆಯಲ್ಲಿ ಗೌರವಾನ್ವಿತ ಜಮೀನ್ದಾರ್‌ಗಳನ್ನು ನ್ಯಾಯಾಲಯಕ್ಕೆ ಕರೆಸಲಾಗುತ್ತದೆ, ಬಂಧಿಸಲಾಗುತ್ತದೆ, ಗುರಿಯಲ್ಲಿ ಇರಿಸಲಾಗುತ್ತದೆ ಮತ್ತು ಅವಮಾನಿಸಲಾಗುತ್ತದೆ. ಎಲ್ಲವೂ ದಾವೆದಾರರನ್ನು ಬಡವರನ್ನಾಗಿ ಮಾಡಲು ಲೆಕ್ಕ ಹಾಕಲಾಗಿದೆ. ಇದಲ್ಲದೆ, ಶಾಲೆಗಳು, ಆಸ್ಪತ್ರೆಗಳು, ಜಮೀನ್ದಾರಿಗಳ ಬೊಕ್ಕಸಕ್ಕೆ ವಾರ್ಷಿಕವಾಗಿ ತೆರಿಗೆ ವಿಧಿಸಲಾಗುತ್ತದೆ. ಇಂತಹ ಸುಲಿಗೆಗಳು ಬಾದಶಾಹಿ ಸರ್ಕಾರದಲ್ಲಿ ಅಸ್ತಿತ್ವವನ್ನು ಹೊಂದಿರುವುದಿಲ್ಲ. ಇದಕ್ಕೆ ವ್ಯತಿರಿಕ್ತವಾಗಿ ಜುಮಾಗಳು ಹಗುರವಾಗಿರುತ್ತವೆ. ಜಮೀನ್ದಾರಿಗಳ ಘನತೆ ಮತ್ತು ಗೌರವವು ಸುರಕ್ಷಿತವಾಗಿರುತ್ತದೆ ಮತ್ತು ಪ್ರತಿ ಜಮೀನ್ದಾರಿ ತನ್ನದೇ ಆದ ಜಮೀನ್ದಾರಿಯಲ್ಲಿ ಸಂಪೂರ್ಣ ಆಡಳಿತವನ್ನು ಹೊಂದಿರುತ್ತಾನೆ.

ಘೋಷಣೆಯ ವಿಭಾಗ I ಯಾವ ವರ್ಗಕ್ಕೆ ಸಂಬಂಧಿಸಿದೆ?

1. ಸೇವಾ ಕುಲೀನ ವರ್ಗ
2. ಭೂಮಿ ಹಿಡುವಳಿ ವರ್ಗ
3. ವ್ಯಾಪಾರಿ-ವಾಣಿಜ್ಯ ವರ್ಗ
4. ಕುಶಲ ಕರ್ಮಿಗಳು ಮತ್ತು ರೈತರು

Options :

485584146125. 1
485584146126. 2
485584146127. 3
485584146128. 4

Question Number : 148 Question Id : 48558436533 Question Type : MCQ Option Shuffling : No Is Question Mandatory : No Calculator : None Response Time : N.A Think Time : N.A Minimum Instruction Time : 0

Correct Marks : 5 Wrong Marks : 1

Question Key Details :

Key	Value
Comprehension	Comp2

Read the passage and answer the questions :

Section I - Regarding Zemindars. It is evident that the British Government in making zemindary settlement have imposed exorbitant *Jumas* (revenue demand) and have disgraced and ruined several Zemindars by putting up their estates for public auction for arrears of rent, in so much, in the institution of a suit by a common Ryot, a maid servant or a slave, the respectable Zemindars are summoned into court, arrested, put in goal and disgraced. In litigation regarding Zemindaries, the immense value of stamps, and other unnecessary expenses of the civil courts,... are all calculated to impoverish the litigants. Besides this, the coffers of the Zemindars are annually taxed with the subscription for schools, hospitals, roads, etc. Such extortions will have no manner of existence in the Badshahi Government; but on the contrary the *Jumas* will be light, the dignity and honour of the Zemindars safe, and every Zemindar will have absolute rule in his own Zemindary...

Which of the difficulties and miseries of the zamindars have NOT been addressed in the Proclamation?

1. Absolute maximising of land tax.
2. Loss of social prestige.
3. Financial burden of the litigation.
4. Backwardness in communication and transportation.

Options :

485584146129. 1
485584146130. 2
485584146131. 3
485584146132. 4

Question Number : 148 Question Id : 48558436533 Question Type : MCQ Option Shuffling : No Is Question Mandatory : No Calculator : None Response Time : N.A Think Time : N.A Minimum Instruction Time : 0

Correct Marks : 5 Wrong Marks : 1

Question Key Details :

Key	Value
Comprehension	Comp2

ಭಾಗವನ್ನು ಓದಿ ಮತ್ತು ಪ್ರಶ್ನೆಗಳಿಗೆ ಉತ್ತರಿಸಿ.

ಸೆಕ್ಷನ್ I - ಜಮೀನ್ದಾರಿಗಳಿಗೆ ಸಂಬಂಧಿಸಿದಂತೆ ಬ್ರಿಟಿಷ್ ಸರ್ಕಾರವು ಜಮೀನ್ದಾರಿ ವಸಾಹತು ಮಾಡುವಲ್ಲಿ ವಿಪರೀತ ಜುಮಾಗಳನ್ನು ವಿಧಿಸಿದೆ (ಆದಾಯ ಬೇಡಿಕೆ) ಮತ್ತು ಹಲವಾರು ಜಮೀನ್ದಾರರನ್ನು ಅವಮಾನಗೊಳಿಸಿದೆ ಮತ್ತು ಅವರ ಎಸ್ಟೇಟ್‌ಗಳನ್ನು ಬಾಡಿಗೆಗೆ ಬಾಕಿಗಾಗಿ ಸಾರ್ವಜನಿಕ ಹರಾಜಿಗೆ ಹಾಕುವ ಮೂಲಕ ಹಾಳು ಮಾಡಿದೆ ಎಂದು ಸ್ಪಷ್ಟವಾಗಿದೆ. ಸಾಮಾನ್ಯ ರಯೋಟ್, ಒಬ್ಬ ಸೇವಕಿ, ಸೇವಕ ಅಥವಾ ಗುಲಾಮರಿಂದ ದಾವೆಯ ಸಂಸ್ಥೆಯಲ್ಲಿ ಗೌರವಾನ್ವಿತ ಜಮೀನ್ದಾರ್‌ಗಳನ್ನು ನ್ಯಾಯಾಲಯಕ್ಕೆ ಕರೆಸಲಾಗುತ್ತದೆ, ಬಂಧಿಸಲಾಗುತ್ತದೆ, ಗುರಿಯಲ್ಲಿ ಇರಿಸಲಾಗುತ್ತದೆ ಮತ್ತು ಅವಮಾನಿಸಲಾಗುತ್ತದೆ, ಎಲ್ಲವೂ ದಾವೆದಾರರನ್ನು ಬಡವರನ್ನಾಗಿ ಮಾಡಲು ಲೆಕ್ಕ ಹಾಕಲಾಗಿದೆ. ಇದಲ್ಲದೆ, ಶಾಲೆಗಳು, ಆಸ್ಪತ್ರೆಗಳು, ಜಮೀನ್ದಾರಿಗಳ ಬೋಕ್ಯುಸಕ್ಕೆ ವಾರ್ಷಿಕವಾಗಿ ತೆರಿಗೆ ವಿಧಿಸಲಾಗುತ್ತದೆ. ಇಂತಹ ಸುಲಿಗೆಗಳು ಬಾದಶಾಹಿ ಸರ್ಕಾರದಲ್ಲಿ ಅಸ್ತಿತ್ವವನ್ನು ಹೊಂದಿರುವುದಿಲ್ಲ. ಇದಕ್ಕೆ ವ್ಯತಿರಿಕ್ತವಾಗಿ ಜುಮಾಗಳು ಹಗುರವಾಗಿರುತ್ತವೆ. ಜಮೀನ್ದಾರಿಗಳ ಘನತೆ ಮತ್ತು ಗೌರವವು ಸುರಕ್ಷಿತವಾಗಿರುತ್ತದೆ ಮತ್ತು ಪ್ರತಿ ಜಮೀನ್ದಾರಿ ತನ್ನದೇ ಆದ ಜಮೀನ್ದಾರಿಯಲ್ಲಿ ಸಂಪೂರ್ಣ ಆಡಳಿತವನ್ನು ಹೊಂದಿರುತ್ತಾನೆ.

ಘೋಷಣೆಯಲ್ಲಿ ಜಮೀನ್ದಾರರ ಯಾವ ತೊಂದರೆಗಳು ಮತ್ತು ದುಃಖಗಳನ್ನು ತಿಳಿಸಲಾಗಿಲ್ಲ?

1. ಭೂ ತೆರಿಗೆಯ ಸಂಪೂರ್ಣ ಗರಿಷ್ಠಗೊಳಿಸುವಿಕೆ
2. ಸಾಮಾಜಿಕ ಪ್ರತಿಷ್ಠೆಯ ನಷ್ಟ
3. ಮೊಕದ್ದಮೆಯ ಆರ್ಥಿಕ ಹೊರೆ
4. ಸಂವಹನ ಮತ್ತು ಸಾರಿಗೆಯಲ್ಲಿ ಹಿಂದುಳಿಯುವಿಕೆ

Options :

485584146129. 1
485584146130. 2
485584146131. 3

Question Number : 149 Question Id : 48558436534 Question Type : MCQ Option Shuffling : No Is Question Mandatory : No Calculator : None Response Time : N.A Think Time : N.A Minimum Instruction Time : 0

Correct Marks : 5 Wrong Marks : 1

Question Key Details :

Key	Value
Comprehension	Comp2

Read the passage and answer the questions :

Section I - Regarding Zemindars. It is evident that the British Government in making zemindary settlement have imposed exorbitant *Jumas* (revenue demand) and have disgraced and ruined several Zemindars by putting up their estates for public auction for arrears of rent, in so much, in the institution of a suit by a common Ryot, a maid servant or a slave, the respectable Zemindars are summoned into court, arrested, put in goal and disgraced. In litigation regarding Zemindaries, the immense value of stamps, and other unnecessary expenses of the civil courts,... are all calculated to impoverish the litigants. Besides this, the coffers of the Zemindars are annually taxed with the subscription for schools, hospitals, roads, etc. Such extortions will have no manner of existence in the Badshahi Government; but on the contrary the *Jumas* will be light, the dignity and honour of the Zemindars safe, and every Zemindar will have absolute rule in his own Zemindary...

The alternative rule of 'Badshahi Government' proposed by the rebels in this proclamation refers to _____

1. The rule of the king of England.
2. The royal nature of the company state.
3. The rule of India's traditional aristocratic class, such as of Bahadur Shah Zafar.
4. The rule established by the rebels based on the ordinary people of India.

Options :

485584146133. 1

485584146134. 2

485584146135. 3

485584146136. 4

Question Number : 149 Question Id : 48558436534 Question Type : MCQ Option Shuffling : No Is Question Mandatory : No Calculator : None Response Time : N.A Think Time : N.A Minimum Instruction Time : 0

Correct Marks : 5 Wrong Marks : 1

Question Key Details :

Key	Value
Comprehension	Comp2

ಭಾಗವನ್ನು ಓದಿ ಮತ್ತು ಪ್ರಶ್ನೆಗಳಿಗೆ ಉತ್ತರಿಸಿ.

ಸೆಕ್ಷನ್ I - ಜಮೀನ್ದಾರಿಗಳಿಗೆ ಸಂಬಂಧಿಸಿದಂತೆ ಬ್ರಿಟಿಷ್ ಸರ್ಕಾರವು ಜಮೀನ್ದಾರಿ ವಸಾಹತು ಮಾಡುವಲ್ಲಿ ವಿಪರೀತ ಜುಮಾಗಳನ್ನು ವಿಧಿಸಿದೆ (ಆದಾಯ ಬೇಡಿಕೆ) ಮತ್ತು ಹಲವಾರು ಜಮೀನ್ದಾರರನ್ನು ಅವಮಾನಗೊಳಿಸಿದೆ ಮತ್ತು ಅವರ ಎಸ್ಟೇಟ್‌ಗಳನ್ನು ಬಾಡಿಗೆಗೆ ಬಾಕಿಗಾಗಿ ಸಾರ್ವಜನಿಕ ಹರಾಜಿಗೆ ಹಾಕುವ ಮೂಲಕ ಹಾಳು ಮಾಡಿದೆ ಎಂದು ಸ್ಪಷ್ಟವಾಗಿದೆ. ಸಾಮಾನ್ಯ ರಯೋಟೆಸ್, ಒಬ್ಬ ಸೇವಕಿ, ಸೇವಕ ಅಥವಾ ಗುಲಾಮರಿಂದ ದಾವೆಯ ಸಂಸ್ಥೆಯಲ್ಲಿ ಗೌರವಾನ್ವಿತ ಜಮೀನ್ದಾರ್‌ಗಳನ್ನು ನ್ಯಾಯಾಲಯಕ್ಕೆ ಕರೆಸಲಾಗುತ್ತದೆ, ಬಂಧಿಸಲಾಗುತ್ತದೆ, ಗುರಿಯಲ್ಲಿ ಇರಿಸಲಾಗುತ್ತದೆ ಮತ್ತು ಅವಮಾನಿಸಲಾಗುತ್ತದೆ. ಎಲ್ಲವೂ ದಾವೆದಾರರನ್ನು ಬಡವರನ್ನಾಗಿ ಮಾಡಲು ಲೆಕ್ಕ ಹಾಕಲಾಗಿದೆ. ಇದಲ್ಲದೆ, ಶಾಲೆಗಳು, ಆಸ್ಪತ್ರೆಗಳು, ಜಮೀನ್ದಾರಿಗಳ ಬೊಕ್ಕಸಕ್ಕೆ ವಾರ್ಷಿಕವಾಗಿ ತೆರಿಗೆ ವಿಧಿಸಲಾಗುತ್ತದೆ. ಇಂತಹ ಸುಲಿಗೆಗಳು ಬಾದಶಾಹಿ ಸರ್ಕಾರದಲ್ಲಿ ಅಸ್ತಿತ್ವವನ್ನು ಹೊಂದಿರುವುದಿಲ್ಲ. ಇದಕ್ಕೆ ವ್ಯತಿರಿಕ್ತವಾಗಿ ಜುಮಾಗಳು ಹಗುರವಾಗಿರುತ್ತವೆ. ಜಮೀನ್ದಾರಿಗಳ ಘನತೆ ಮತ್ತು ಗೌರವವು ಸುರಕ್ಷಿತವಾಗಿರುತ್ತದೆ ಮತ್ತು ಪ್ರತಿ ಜಮೀನ್ದಾರಿ ತನ್ನದೇ ಆದ ಜಮೀನ್ದಾರಿಯಲ್ಲಿ ಸಂಪೂರ್ಣ ಆಡಳಿತವನ್ನು ಹೊಂದಿರುತ್ತಾನೆ.

ಈ ಘೋಷಣೆಯಲ್ಲಿ ಬಂಡುಕೋರರು ಪ್ರಸ್ತಾಪಿಸಿದ ಬಾದಶಾಹಿ ಸರ್ಕಾರದ ಪರ್ಯಾಯ ನಿಯಮವನ್ನು ಉಲ್ಲೇಖಿಸುತ್ತದೆ.

1. ಇಂಗ್ಲೆಂಡ್ ರಾಜನ ಆಳ್ವಿಕೆ
2. ಕಂಪನಿಯ ಶಾಶ್ವತ ರಾಜ ಸ್ವಭಾವ
3. ಬಹದ್ದೂರ್ ಶಾ ಜಾಫರ್ ಅವರಂತಹ ಭಾರತದ ಸಾಂಪ್ರದಾಯಿಕ ಶ್ರೀಮಂತ ವರ್ಗದ ಆಳ್ವಿಕೆ
4. ಭಾರತದ ಸಾಮಾನ್ಯ ಜನರನ್ನು ಆಧರಿಸಿ ಬಂಡುಕೋರರು ಸ್ಥಾಪಿಸಿದ ಆಡಳಿತ

Options :

485584146133. 1
485584146134. 2
485584146135. 3
485584146136. 4

Question Number : 150 Question Id : 48558436535 Question Type : MCQ Option Shuffling : No Is Question Mandatory : No Calculator : None Response Time : N.A Think Time : N.A Minimum Instruction Time : 0

Correct Marks : 5 Wrong Marks : 1

Question Key Details :

Key	Value
Comprehension	Comp2

Read the passage and answer the questions :

Section I - Regarding Zemindars. It is evident that the British Government in making zemindary settlement have imposed exorbitant *Jumas* (revenue demand) and have disgraced and ruined several Zemindars by putting up their estates for public auction for arrears of rent, in so much, in the institution of a suit by a common Ryot, a maid servant or a slave, the respectable Zemindars are summoned into court, arrested, put in goal and disgraced. In litigation regarding Zemindaries, the immense value of stamps, and other unnecessary expenses of the civil courts,... are all calculated to impoverish the litigants. Besides this, the coffers of the Zemindars are annually taxed with the subscription for schools, hospitals, roads, etc. Such extortions will have no manner of existence in the Badshahi Government; but on the contrary the *Jumas* will be light, the dignity and honour of the Zemindars safe, and every Zemindar will have absolute rule in his own Zemindary...

Loss of zamindari estates and public auction of the same, as mentioned in the Proclamation, was caused by_____.

1. War of succession with the British.
2. Military expedition of the company.
3. New land reserve settlements of the company.
4. Lack of competence and co-ordination on part of the zamindars.

Options :

485584146137. 1
485584146138. 2
485584146139. 3
485584146140. 4

Question Number : 150 Question Id : 48558436535 Question Type : MCQ Option Shuffling : No Is Question Mandatory : No Calculator : None Response Time : N.A Think Time : N.A Minimum Instruction Time : 0

Correct Marks : 5 Wrong Marks : 1

Question Key Details :

Key	Value
Comprehension	Comp2

ಭಾಗವನ್ನು ಓದಿ ಮತ್ತು ಪ್ರಶ್ನೆಗಳಿಗೆ ಉತ್ತರಿಸಿ.

ಸೆಕ್ಷನ್ I - ಜಮೀನ್ದಾರಿಗಳಿಗೆ ಸಂಬಂಧಿಸಿದಂತೆ ಬ್ರಿಟಿಷ್ ಸರ್ಕಾರವು ಜಮೀನ್ದಾರಿ ವಸಾಹತು ಮಾಡುವಲ್ಲಿ ವಿಪರೀತ ಜುಮಾಗಳನ್ನು ವಿಧಿಸಿದೆ (ಆದಾಯ ಬೇಡಿಕೆ) ಮತ್ತು ಹಲವಾರು ಜಮೀನ್ದಾರರನ್ನು ಅವಮಾನಗೊಳಿಸಿದೆ ಮತ್ತು ಅವರ ಎಸ್ಟೇಟ್‌ಗಳನ್ನು ಬಾಡಿಗೆಗೆ ಬಾಕಿಗಾಗಿ ಸಾರ್ವಜನಿಕ ಹರಾಜಿಗೆ ಹಾಕುವ ಮೂಲಕ ಹಾಳು ಮಾಡಿದೆ ಎಂದು ಸ್ಪಷ್ಟವಾಗಿದೆ. ಸಾಮಾನ್ಯ ರಯೋಟ್, ಒಬ್ಬ ಸೇವಕಿ, ಸೇವಕ ಅಥವಾ ಗುಲಾಮರಿಂದ ದಾವೆಯ ಸಂಸ್ಥೆಯಲ್ಲಿ ಗೌರವಾನ್ವಿತ ಜಮೀನ್ದಾರ್‌ಗಳನ್ನು ನ್ಯಾಯಾಲಯಕ್ಕೆ ಕರೆಸಲಾಗುತ್ತದೆ, ಬಂಧಿಸಲಾಗುತ್ತದೆ, ಗುರಿಯಲ್ಲಿ ಇರಿಸಲಾಗುತ್ತದೆ ಮತ್ತು ಅವಮಾನಿಸಲಾಗುತ್ತದೆ. ಎಲ್ಲವೂ ದಾವೆದಾರರನ್ನು ಬಡವರನ್ನಾಗಿ ಮಾಡಲು ಲೆಕ್ಕ ಹಾಕಲಾಗಿದೆ. ಇದಲ್ಲದೆ, ಶಾಲೆಗಳು, ಆಸ್ಪತ್ರೆಗಳು, ಜಮೀನ್ದಾರಿಗಳ ಬೋಕಸಕ್ಕೆ ವಾರ್ಷಿಕವಾಗಿ ತೆರಿಗೆ ವಿಧಿಸಲಾಗುತ್ತದೆ. ಇಂತಹ ಸುಲಿಗೆಗಳು ಬಾದಶಾಹಿ ಸರ್ಕಾರದಲ್ಲಿ ಅಸ್ತಿತ್ವವನ್ನು ಹೊಂದಿರುವುದಿಲ್ಲ. ಇದಕ್ಕೆ ವ್ಯತಿರಿಕ್ತವಾಗಿ ಜುಮಾಗಳು ಹಗುರವಾಗಿರುತ್ತವೆ. ಜಮೀನ್ದಾರಿಗಳ ಘನತೆ ಮತ್ತು ಗೌರವವು ಸುರಕ್ಷಿತವಾಗಿರುತ್ತದೆ ಮತ್ತು ಪ್ರತಿ ಜಮೀನ್ದಾರಿ ತನ್ನದೇ ಆದ ಜಮೀನ್ದಾರಿಯಲ್ಲಿ ಸಂಪೂರ್ಣ ಆಡಳಿತವನ್ನು ಹೊಂದಿರುತ್ತಾನೆ.

ಘೋಷಣೆಯಲ್ಲಿ ಉಲ್ಲೇಖಿಸಿದಂತೆ ಜಮೀನ್ದಾರಿ ಎಸ್ಟೇಟ್‌ಗಳ ನಷ್ಟ ಮತ್ತು ಸಾರ್ವಜನಿಕ ಹಣವು:

1. ಬ್ರಿಟಿಷರೊಂದಿಗೆ ಉತ್ತರಾಧಿಕಾರದ ಯುದ್ಧ
2. ಕಂಪನಿಯ ಮಿಲಿಟರಿ ದಂಡಯಾತ್ರೆ
3. ಕಂಪನಿಯ ಹೊಸ ಭೂ ಮೀಸಲು ವಸಾಹತು
4. ಜಮೀನ್ದಾರರ ಕಡೆಯಿಂದ ಸಾಮರ್ಥ್ಯ ಮತ್ತು ಸಮನ್ವಯದ ಕೊರತೆ

Options :

485584146137. 1
485584146138. 2

485584146139. 3
485584146140. 4

Home Science

Group Number : 5
Group Id : 485584825
Group Maximum Duration : 45
Group Minimum Duration : 45
Show Attended Group? : No
Edit Attended Group? : No
Break time : 0
Group Marks : 200
Is this Group for Examiner? : No
Examiner permission : Cant View
Show Progress Bar? : No

Home Science

Section Id : 485584949
Section Number : 1
Section type : Online
Mandatory or Optional : Mandatory
Number of Questions : 50
Number of Questions to be attempted : 40
Section Marks : 200
Enable Mark as Answered Mark for Review and Clear Response : Yes
Maximum Instruction Time : 0
Sub-Section Number : 1
Sub-Section Id : 4855842699
Question Shuffling Allowed : Yes
Is Section Default? : null

Question Number : 151 Question Id : 48558436536 Question Type : MCQ Option Shuffling : No Is Question Mandatory : No Calculator : None Response Time : N.A Think Time : N.A Minimum Instruction Time : 0

Correct Marks : 5 Wrong Marks : 1

Question Key Details :

Key	Value
Comprehension	MCQ

The Persons with Disabilities Act was passed in which year?

1. 1995
2. 1996
3. 2000
4. 1998

Options :

485584146141. 1
485584146142. 2

485584146143. 3

485584146144. 4

Question Number : 151 Question Id : 48558436536 Question Type : MCQ Option Shuffling : No Is Question Mandatory : No Calculator : None Response Time : N.A Think Time : N.A Minimum Instruction Time : 0

Correct Marks : 5 Wrong Marks : 1

Question Key Details :

Key	Value
Comprehension	MCQ

ಅಂಗವಿಕಲರ ಕಾಯಿದೆ ಜಾರಿಗೆ ಬಂದ ವರ್ಷ ಯಾವುದು?

1. 1995

2. 1996

3. 2000

4. 1998

Options :

485584146141. 1

485584146142. 2

485584146143. 3

485584146144. 4

Question Number : 152 Question Id : 48558436537 Question Type : MCQ Option Shuffling : No Is Question Mandatory : No Calculator : None Response Time : N.A Think Time : N.A Minimum Instruction Time : 0

Correct Marks : 5 Wrong Marks : 1

Question Key Details :

Key	Value
Comprehension	MCQ

The causes of disability in children can be grouped into three categories which are:

- A. Factors that impinge on the child during development
- B. Factors due to school education
- C. Factors that affect before birth, both genetic and non-genetic
- D. Factors that affect the child at birth or soon after birth

Choose the correct answer from the options given below:

1. A, C and D only

2. A, B and C only

3. B, C and D only

4. A, B and D only

Options :

485584146145. 1

485584146146. 2

485584146147. 3

485584146148. 4

Question Number : 152 Question Id : 48558436537 Question Type : MCQ Option Shuffling : No Is Question Mandatory : No Calculator : None Response Time : N.A Think Time : N.A Minimum Instruction Time : 0

Correct Marks : 5 Wrong Marks : 1

Question Key Details :

Key	Value
Comprehension	MCQ

ಮಕ್ಕಳಲ್ಲಿ ಅಂಗವೈಕಲ್ಯತೆಗೆ ಕಾರಣಗಳನ್ನು ಈ ಮೂರು ರೀತಿಯ ವರ್ಗದಲ್ಲಿ ಕಾಣಬಹುದಾಗಿದೆ:

- ಬೆಳವಣಿಗೆಯಲ್ಲಿರುವಾಗಿನ ಅಂಶಗಳು
- ಶಾಲಾ ಶಿಕ್ಷಣದಿಂದಾದ ಅಂಶಗಳು
- ಹುಟ್ಟುವ ಮೊದಲು, ಅನುವಂಶೀಯ ಮತ್ತು ಅನುವಂಶೀಯವಲ್ಲದ ಅಂಶಗಳು
- ಹುಟ್ಟಿದ ಮತ್ತು ಹುಟ್ಟಿದ ನಂತರದ ಅಂಶಗಳು

ಈ ಕೆಳಗಿನ ಆಯ್ಕೆಗಳಿಂದ ಸರಿಯಾದ ಉತ್ತರವನ್ನು ಆರಿಸಿ:

1. A, C ಮತ್ತು D ಮಾತ್ರ
2. A, B ಮತ್ತು C ಮಾತ್ರ
3. B, C ಮತ್ತು D ಮಾತ್ರ
4. A, B ಮತ್ತು D ಮಾತ್ರ

Options :

485584146145. 1
485584146146. 2
485584146147. 3
485584146148. 4

Question Number : 153 Question Id : 48558436538 Question Type : MCQ Option Shuffling : No Is Question Mandatory : No Calculator : None Response Time : N.A Think Time : N.A Minimum Instruction Time : 0

Correct Marks : 5 Wrong Marks : 1

Question Key Details :

Key	Value
Comprehension	MCQ

_____ is the basic unit of society which looks after its members.

1. School
2. Family
3. Neighbour
4. Friends

Options :

485584146149. 1
485584146150. 2
485584146151. 3

485584146152. 4

Question Number : 153 Question Id : 48558436538 Question Type : MCQ Option Shuffling : No Is Question Mandatory : No Calculator : None Response Time : N.A Think Time : N.A Minimum Instruction Time : 0

Correct Marks : 5 Wrong Marks : 1

Question Key Details :

Key	Value
Comprehension	MCQ

ತನ್ನ ಸದಸ್ಯರನ್ನು ನೋಡುವ ಸಮಾಜದ ಮೂಲ ಘಟಕ ಇದಾಗಿದೆ.

1. ಶಾಲೆ
2. ಕುಟುಂಬ
3. ನೆರೆಹೊರೆಯವರು
4. ಸ್ನೇಹಿತರು

Options :

485584146149. 1
485584146150. 2
485584146151. 3
485584146152. 4

Question Number : 154 Question Id : 48558436539 Question Type : MCQ Option Shuffling : No Is Question Mandatory : No Calculator : None Response Time : N.A Think Time : N.A Minimum Instruction Time : 0

Correct Marks : 5 Wrong Marks : 1

Question Key Details :

Key	Value
Comprehension	MCQ

In India, a senior citizen is a person belonging to which of the following age group?

1. 65 years and above
2. 60 years and above
3. 70 years and above
4. 80 years and above

Options :

485584146153. 1
485584146154. 2
485584146155. 3
485584146156. 4

Question Number : 154 Question Id : 48558436539 Question Type : MCQ Option Shuffling : No Is Question Mandatory : No Calculator : None Response Time : N.A Think Time : N.A Minimum Instruction Time : 0

Correct Marks : 5 Wrong Marks : 1

Question Key Details :

Key	Value
-----	-------

ಈ ಕೆಳಗೆ ನಮೂದಿಸಿದ ವಯೋಮಾನದ ಜನರನ್ನು ಭಾರತದಲ್ಲಿ ಹಿರಿಯ ನಾಗರಿಕರೆಂದು ಹೇಳುತ್ತಾರೆ:

1. 65 ವರ್ಷ ಮತ್ತು ಮೇಲ್ಪಟ್ಟು
2. 60 ವರ್ಷ ಮತ್ತು ಮೇಲ್ಪಟ್ಟು
3. 70 ವರ್ಷ ಮತ್ತು ಮೇಲ್ಪಟ್ಟು
4. 80 ವರ್ಷ ಮತ್ತು ಮೇಲ್ಪಟ್ಟು

Options :

485584146153. 1
485584146154. 2
485584146155. 3
485584146156. 4

Question Number : 155 Question Id : 48558436540 Question Type : MCQ Option Shuffling : No Is Question Mandatory : No Calculator : None Response Time : N.A Think Time : N.A Minimum Instruction Time : 0

Correct Marks : 5 Wrong Marks : 1

Question Key Details :

Key	Value
Comprehension	MCQ

In which year, Ministry of Youth Affairs and Sports adopted the National Youth Policy?

1. 2005
2. 2003
3. 2004
4. 2010

Options :

485584146157. 1
485584146158. 2
485584146159. 3
485584146160. 4

Question Number : 155 Question Id : 48558436540 Question Type : MCQ Option Shuffling : No Is Question Mandatory : No Calculator : None Response Time : N.A Think Time : N.A Minimum Instruction Time : 0

Correct Marks : 5 Wrong Marks : 1

Question Key Details :

Key	Value
Comprehension	MCQ

ರಾಷ್ಟ್ರೀಯ ಯುವನೀತಿಯಲ್ಲಿ ಯಾವ ಜನ ಮತ್ತು ಕ್ರೀಡಾ ಸಚಿವಾಲಯವನ್ನು ಯಾವ ವರ್ಷದಲ್ಲಿ ಅಳವಡಿಸಿಕೊಳ್ಳಲಾಯಿತು?

1. 2005
2. 2003
3. 2004
4. 2010

Options :

485584146157. 1
485584146158. 2
485584146159. 3
485584146160. 4

Question Number : 156 Question Id : 48558436541 Question Type : MCQ Option Shuffling : No Is Question Mandatory : No Calculator : None Response Time : N.A Think Time : N.A Minimum Instruction Time : 0

Correct Marks : 5 Wrong Marks : 1

Question Key Details :

Key	Value
Comprehension	MCQ

Name the psychologist who outlined the great need that children have for a concerned, caring and knowledgeable adult.

1. Piaget
2. Freud
3. Vygotsky
4. Bruner

Options :

485584146161. 1
485584146162. 2
485584146163. 3
485584146164. 4

Question Number : 156 Question Id : 48558436541 Question Type : MCQ Option Shuffling : No Is Question Mandatory : No Calculator : None Response Time : N.A Think Time : N.A Minimum Instruction Time : 0

Correct Marks : 5 Wrong Marks : 1

Question Key Details :

Key	Value
Comprehension	MCQ

ಮಕ್ಕಳು ಜ್ಞಾನವಿರುವ ಯುವಜನರಾಗಲೇಬೇಕೆಂಬ ಆವಶ್ಯಕತೆ ತುಂಬಾ ಇದೆ ಎಂದು ತಿಳಿಸಿದ
ಮನೋಶಾಸ್ತ್ರಜ್ಞ:

1. ಪಿಯಾಗೆಟ್
2. ಫ್ರಾಯ್ಡ್
3. ವ್ಯಾಗೂಸ್ಕಿ
4. ಬ್ರುನರ್

Options :

485584146161. 1
485584146162. 2
485584146163. 3
485584146164. 4

**Question Number : 157 Question Id : 48558436542 Question Type : MCQ Option Shuffling : No Is Question Mandatory :
No Calculator : None Response Time : N.A Think Time : N.A Minimum Instruction Time : 0**

Correct Marks : 5 Wrong Marks : 1

Question Key Details :

Key	Value
Comprehension	MCQ

Identify the given standardisation mark.



1. ISI
2. FPO
3. AGMARK
4. Hallmark

Options :

485584146165. 1
485584146166. 2
485584146167. 3
485584146168. 4

Question Number : 157 Question Id : 48558436542 Question Type : MCQ Option Shuffling : No Is Question Mandatory : No Calculator : None Response Time : N.A Think Time : N.A Minimum Instruction Time : 0

Correct Marks : 5 Wrong Marks : 1

Question Key Details :

Key	Value
Comprehension	MCQ

ಕೊಟ್ಟಿರುವ ಪ್ರಮಾಣಿತ ಗುರುತನ್ನು ಗುರುತಿಸಿ.



1. ISI
2. FPO
3. AGMARK
4. Hallmark

Options :

485584146165. 1
485584146166. 2
485584146167. 3
485584146168. 4

Question Number : 158 Question Id : 48558436543 Question Type : MCQ Option Shuffling : No Is Question Mandatory : No Calculator : None Response Time : N.A Think Time : N.A Minimum Instruction Time : 0

Correct Marks : 5 Wrong Marks : 1

Question Key Details :

Key	Value
Comprehension	MCQ

A process through which buyer makes decisions about purchasing is known as _____.

1. Consumer behaviour
2. Consumer right
3. Consumer footfall
4. Consumer expectation

Options :

485584146169. 1
485584146170. 2

485584146171. 3

485584146172. 4

Question Number : 158 Question Id : 48558436543 Question Type : MCQ Option Shuffling : No Is Question Mandatory : No Calculator : None Response Time : N.A Think Time : N.A Minimum Instruction Time : 0

Correct Marks : 5 Wrong Marks : 1

Question Key Details :

Key	Value
Comprehension	MCQ

ಖರೀದಿದಾರನು ಖರೀದಿಯ ಬಗ್ಗೆ ತೆಗೆದುಕೊಳ್ಳುವ ನಿರ್ಧಾರದ ಪ್ರಕ್ರಿಯೆಯು _____.

1. ಗ್ರಾಹಕ ವರ್ತನೆ
2. ಗ್ರಾಹಕ ಹಕ್ಕು
3. ಗ್ರಾಹಕ ಅಡಿಪಾಯ
4. ಗ್ರಾಹಕ ನಿರೀಕ್ಷೆ

Options :

485584146169. 1

485584146170. 2

485584146171. 3

485584146172. 4

Question Number : 159 Question Id : 48558436544 Question Type : MCQ Option Shuffling : No Is Question Mandatory : No Calculator : None Response Time : N.A Think Time : N.A Minimum Instruction Time : 0

Correct Marks : 5 Wrong Marks : 1

Question Key Details :

Key	Value
Comprehension	MCQ

Which of the following is a tool to empower and equip consumers to protect themselves from adverse market forces ?

1. Consumer education
2. Consumer problems
3. Consumer behaviour
4. Consumer responsibility

Options :

485584146173. 1

485584146174. 2

485584146175. 3

485584146176. 4

Question Number : 159 Question Id : 48558436544 Question Type : MCQ Option Shuffling : No Is Question Mandatory : No Calculator : None Response Time : N.A Think Time : N.A Minimum Instruction Time : 0

Correct Marks : 5 Wrong Marks : 1

Question Key Details :

Key	Value
Comprehension	MCQ

ಈ ಕೆಳಗಿನ ಯಾವುದು ಗ್ರಾಹಕರನ್ನು ಮಾರುಕಟ್ಟೆ ಪ್ರತಿಕೂಲ ಶಕ್ತಿಗಳಿಂದ ರಕ್ಷಣೆ ಮಾಡಬಲ್ಲ ಸಲಕ ಸಾಧನವಾಗಿದೆ?

1. ಗ್ರಾಹಕ ಶಿಕ್ಷಣ
2. ಗ್ರಾಹಕ ಸಮಸ್ಯೆ
3. ಗ್ರಾಹಕ ವರ್ತನೆ
4. ಗ್ರಾಹಕನ ಜವಾಬ್ದಾರಿ

Options :

485584146173. 1
485584146174. 2
485584146175. 3
485584146176. 4

Question Number : 160 Question Id : 48558436545 Question Type : MCQ Option Shuffling : No Is Question Mandatory : No Calculator : None Response Time : N.A Think Time : N.A Minimum Instruction Time : 0

Correct Marks : 5 Wrong Marks : 1

Question Key Details :

Key	Value
Comprehension	MCQ

What is the other name for short lived fashion?

1. Fad
2. Classic
3. Style
4. Design

Options :

485584146177. 1
485584146178. 2
485584146179. 3
485584146180. 4

Question Number : 160 Question Id : 48558436545 Question Type : MCQ Option Shuffling : No Is Question Mandatory : No Calculator : None Response Time : N.A Think Time : N.A Minimum Instruction Time : 0

Correct Marks : 5 Wrong Marks : 1

Question Key Details :

Key	Value
Comprehension	MCQ

ಕೆಳಗಿನ ಯಾವುದು ಅಲ್ಪಾವಧಿಯ ಫ್ಯಾಷನ್ ಆಗಿದೆ?

1. ಖಯಾಲು
2. ಶಾಸ್ತ್ರೀಯ
3. ಶೈಲಿ
4. ಫ್ಯಾಷನ್

Options :

485584146177. 1
485584146178. 2
485584146179. 3
485584146180. 4

Question Number : 161 Question Id : 48558436546 Question Type : MCQ Option Shuffling : No Is Question Mandatory : No Calculator : None Response Time : N.A Think Time : N.A Minimum Instruction Time : 0

Correct Marks : 5 Wrong Marks : 1

Question Key Details :

Key	Value
Comprehension	MCQ

You have to purchase a dress for your sister who is tall and slim. Inclusion of which of the following will be appropriate for her?

1. Vertical lines
2. Horizontal lines
3. Dark colours
4. High waist bodice

Options :

485584146181. 1
485584146182. 2
485584146183. 3
485584146184. 4

Question Number : 161 Question Id : 48558436546 Question Type : MCQ Option Shuffling : No Is Question Mandatory : No Calculator : None Response Time : N.A Think Time : N.A Minimum Instruction Time : 0

Correct Marks : 5 Wrong Marks : 1

Question Key Details :

Key	Value
Comprehension	MCQ

ನೀವು ತೆಳ್ಳಗೆ ಮತ್ತು ಎತ್ತರವಾಗಿರುವ ನಿಮ್ಮ ತಂಗಿಗೆ ಒಂದು ಉಡುಪನ್ನು ಆಯ್ಕೆ ಮಾಡಿದ್ದೀರಿ. ಈ ಕೆಳಗಿನ ಯಾವುದು ಅವಳಿಗೆ ಸೂಕ್ತವಾಗುತ್ತದೆ?

1. ಲಂಬವಾದ ಗೆರೆಗಳು
2. ಅಡ್ಡವಾದ ಗೆರೆಗಳು
3. ಕಪ್ಪು ಬಣ್ಣದ್ದು
4. ಹೆಚ್ಚಿನ ಸೊಂಟದ ರವಿಕೆ

Options :

485584146181. 1
485584146182. 2
485584146183. 3
485584146184. 4

Question Number : 162 Question Id : 48558436547 Question Type : MCQ Option Shuffling : No Is Question Mandatory : No Calculator : None Response Time : N.A Think Time : N.A Minimum Instruction Time : 0

Correct Marks : 5 Wrong Marks : 1

Question Key Details :

Key	Value
Comprehension	MCQ

_____ ability requires a thorough knowledge of past future trends and current future trends.

1. Analytical
2. Forecasting
3. Communication
4. Technical

Options :

485584146185. 1
485584146186. 2
485584146187. 3
485584146188. 4

Question Number : 162 Question Id : 48558436547 Question Type : MCQ Option Shuffling : No Is Question Mandatory : No Calculator : None Response Time : N.A Think Time : N.A Minimum Instruction Time : 0

Correct Marks : 5 Wrong Marks : 1

Question Key Details :

Key	Value
Comprehension	MCQ

ಭವಿಷ್ಯದ ಫ್ಯಾಷನ್ ಪ್ರವೃತ್ತಿಯನ್ನು ತಿಳಿಸುವ ಸಾಮರ್ಥ್ಯವು _____.

1. ವಿಶ್ಲೇಷಣಾತ್ಮಕ
2. ಮುನ್ಸೂಚನಾ
3. ಸಂವಹನ
4. ತಾಂತ್ರಿಕ

Options :

485584146185. 1
485584146186. 2
485584146187. 3
485584146188. 4

Question Number : 163 Question Id : 48558436548 Question Type : MCQ Option Shuffling : No Is Question Mandatory : No Calculator : None Response Time : N.A Think Time : N.A Minimum Instruction Time : 0

Correct Marks : 5 Wrong Marks : 1

Question Key Details :

Key	Value
Comprehension	MCQ

_____ is the important phase in wash cycle. If it is not done properly, clothes may look grey, dull with harsh texture.

1. Water extraction
2. Rinsing
3. Drying
4. Pressing

Options :

485584146189. 1
485584146190. 2
485584146191. 3
485584146192. 4

Question Number : 163 Question Id : 48558436548 Question Type : MCQ Option Shuffling : No Is Question Mandatory : No Calculator : None Response Time : N.A Think Time : N.A Minimum Instruction Time : 0

Correct Marks : 5 Wrong Marks : 1

Question Key Details :

Key	Value
Comprehension	MCQ

_____ ಬಟ್ಟೆ ಸ್ವಚ್ಛಗೊಳಿಸುವ ಚಕ್ರದ ಮುಖ್ಯವಾದ ಘಟ್ಟ. ಇದನ್ನು ಸರಿಯಾಗಿ ಮಾಡದಿದ್ದರೆ ಬಟ್ಟೆಗಳು ನೋಡಲು ಬೂದು ಮತ್ತು ಮಂದ ಬಣ್ಣಕ್ಕೆ ತಿರುಗುತ್ತವೆ.

1. ನೀರಿನಿಂದ ಹೊರತೆಗೆಯುವಿಕೆ
2. ತೊಳೆಯುವುದು
3. ಒಣಗಿಸುವುದು
4. ಇಸ್ರಿ, ಮಾಡುವುದು

Options :

485584146189. 1
485584146190. 2
485584146191. 3
485584146192. 4

Question Number : 164 Question Id : 48558436549 Question Type : MCQ Option Shuffling : No Is Question Mandatory : No Calculator : None Response Time : N.A Think Time : N.A Minimum Instruction Time : 0

Correct Marks : 5 Wrong Marks : 1

Question Key Details :

Key	Value
Comprehension	MCQ

Which of the following colour scheme refers to a colour combination using two or three hues that lie side by side on the colour wheel?

1. Achromatic harmony
2. Accented neutral
3. Analogous harmony
4. Complementary harmony

Options :

485584146193. 1
485584146194. 2
485584146195. 3
485584146196. 4

Question Number : 164 Question Id : 48558436549 Question Type : MCQ Option Shuffling : No Is Question Mandatory : No Calculator : None Response Time : N.A Think Time : N.A Minimum Instruction Time : 0

Correct Marks : 5 Wrong Marks : 1

Question Key Details :

Key	Value
Comprehension	MCQ

ವರ್ಣಚಕ್ರದ ಮೇಲೆ ಎರಡು ಮೂರು ವರ್ಣಗಳನ್ನು ಅಕ್ಕಪಕ್ಕದಲ್ಲಿಟ್ಟು ವರ್ಣ ಸಂಯೋಜನೆ ಮಾಡುವುದನ್ನು _____

1. ವರ್ಣರಹಿತ
2. ಉಚ್ಚಾರಣಾ ತಟಸ್ಥ
3. ಸದೃಶ್ಯ ಹಾರ್ಮನಿ
4. ಪೂರಕ ಹಾರ್ಮನಿ

Options :

485584146193. 1
485584146194. 2
485584146195. 3
485584146196. 4

Question Number : 165 Question Id : 48558436550 Question Type : MCQ Option Shuffling : No Is Question Mandatory : No Calculator : None Response Time : N.A Think Time : N.A Minimum Instruction Time : 0

Correct Marks : 5 Wrong Marks : 1

Question Key Details :

Key	Value
Comprehension	MCQ

The term "Development Communication" was first coined by Quebral in which year?

1. 1969
2. 1970
3. 1972
4. 1974

Options :

485584146197. 1
485584146198. 2
485584146199. 3
485584146200. 4

Question Number : 165 Question Id : 48558436550 Question Type : MCQ Option Shuffling : No Is Question Mandatory : No Calculator : None Response Time : N.A Think Time : N.A Minimum Instruction Time : 0

Correct Marks : 5 Wrong Marks : 1

Question Key Details :

Key	Value
Comprehension	MCQ

"ಅಭಿವೃದ್ಧಿ ಸಂವಹನ" ಎಂಬ ಪದವನ್ನು ಮೊದಲ ಬಾರಿಗೆ ಕೈಬ್ರಾಲ್ ರವರು ಯಾವ ವರ್ಷದಲ್ಲಿ ರಚಿಸಿದರು?

1. 1969
2. 1970
3. 1972
4. 1974

Options :

485584146197. 1
485584146198. 2
485584146199. 3
485584146200. 4

Question Number : 166 Question Id : 48558436551 Question Type : MCQ Option Shuffling : No Is Question Mandatory : No Calculator : None Response Time : N.A Think Time : N.A Minimum Instruction Time : 0

Correct Marks : 5 Wrong Marks : 1

Question Key Details :

Key	Value
Comprehension	MCQ

To create focused attention on a small village in Delhi, the Project village Chattera was started in 1969. Which newspaper was involved in this project?

1. The Times of India
2. The Hindustan Times
3. Navbharat times
4. The Hindu

Options :

485584146201. 1
485584146202. 2
485584146203. 3
485584146204. 4

Question Number : 166 Question Id : 48558436551 Question Type : MCQ Option Shuffling : No Is Question Mandatory : No Calculator : None Response Time : N.A Think Time : N.A Minimum Instruction Time : 0

Correct Marks : 5 Wrong Marks : 1

Question Key Details :

Key	Value
Comprehension	MCQ

ದೆಹಲಿಯ ಸಣ್ಣ ಗ್ರಾಮಗಳ ಬಗ್ಗೆ ಗಮನ ಹರಿಸಲು, ಚತ್ತರ್ ಗ್ರಾಮ ಸಂಯೋಜನೆಯನ್ನು 1969ರಲ್ಲಿ ಆರಂಭಿಸಲಾಯಿತು. ಈ ಯೋಜನೆಯಲ್ಲಿ ಪಾಲಿಕ್ಲಿಂಡ್ ವ್ಯತ್ಯಪತ್ರಿಕೆ ಯಾವುದು?

1. ದಿ ಟೈಮ್ಸ್ ಆಫ್ ಇಂಡಿಯಾ
2. ದಿ ಹಿಂದೂಸ್ತಾನ್ ಟೈಮ್ಸ್
3. ನವಭಾರತ್ ಟೈಮ್ಸ್
4. ದಿ ಹಿಂದೂ

Options :

485584146201. 1
485584146202. 2
485584146203. 3
485584146204. 4

Question Number : 167 Question Id : 48558436552 Question Type : MCQ Option Shuffling : No Is Question Mandatory : No Calculator : None Response Time : N.A Think Time : N.A Minimum Instruction Time : 0

Correct Marks : 5 Wrong Marks : 1

Question Key Details :

Key	Value
Comprehension	MCQ

In which of the following disease condition, low fibre diet is recommended?

1. Diarrhoea
2. Constipation
3. Diabetes
4. Heart disease

Options :

485584146205. 1
485584146206. 2
485584146207. 3
485584146208. 4

Question Number : 167 Question Id : 48558436552 Question Type : MCQ Option Shuffling : No Is Question Mandatory : No Calculator : None Response Time : N.A Think Time : N.A Minimum Instruction Time : 0

Correct Marks : 5 Wrong Marks : 1

Question Key Details :

Key	Value
Comprehension	MCQ

ಕಡಿಮೆ ಫೈಬರ್ ಪಠ್ಯಾಹಾರವನ್ನು ತಿಳಿದುಕೊಳ್ಳುವುದು:

1. ಅತಿಸಾರವಿರುವವರಿಗೆ
2. ಮಲಬದ್ಧತೆಗೆ
3. ಸಿಹಿಮೂತ್ರ ರೋಗಿಗೆ
4. ಹೃದಯರೋಗಿಗೆ

Options :

485584146205. 1
485584146206. 2
485584146207. 3
485584146208. 4

Question Number : 168 Question Id : 48558436553 Question Type : MCQ Option Shuffling : No Is Question Mandatory : No Calculator : None Response Time : N.A Think Time : N.A Minimum Instruction Time : 0

Correct Marks : 5 Wrong Marks : 1

Question Key Details :

Key	Value
Comprehension	MCQ

Which of the following is a welfare catering service ?

1. Holiday camps
2. Langar
3. Clubs
4. Flight kitchens

Options :

485584146209. 1
485584146210. 2
485584146211. 3
485584146212. 4

Question Number : 168 Question Id : 48558436553 Question Type : MCQ Option Shuffling : No Is Question Mandatory : No Calculator : None Response Time : N.A Think Time : N.A Minimum Instruction Time : 0

Correct Marks : 5 Wrong Marks : 1

Question Key Details :

Key	Value
Comprehension	MCQ

ಈ ಕೆಳಗಿನ ಯಾವುದನ್ನು ಕಲ್ಯಾಣ ಉದ್ದೇಶಪಾಲಕರ ಸೇವೆ ಎನ್ನುವರು?

1. ರಜಾ ಶಿಬಿರಗಳು
2. ಕೈಗಾರಿಕಾ ಕ್ಯಾಂಟೀನು
3. ಕ್ಲಬ್
4. ಸಂಚಾರಿ ಉದ್ದೇಶಪಾಲಕರ

Options :

485584146209. 1
485584146210. 2
485584146211. 3
485584146212. 4

Question Number : 169 Question Id : 48558436554 Question Type : MCQ Option Shuffling : No Is Question Mandatory : No Calculator : None Response Time : N.A Think Time : N.A Minimum Instruction Time : 0

Correct Marks : 5 Wrong Marks : 1

Question Key Details :

Key	Value
Comprehension	MCQ

Which of these is NOT a feature of GMP (Good Manufacturing Practice)?

1. Minimise false labelling
2. Consumer education
3. Eliminate contamination
4. Mislead consumer

Options :

485584146213. 1
485584146214. 2
485584146215. 3
485584146216. 4

Question Number : 169 Question Id : 48558436554 Question Type : MCQ Option Shuffling : No Is Question Mandatory : No Calculator : None Response Time : N.A Think Time : N.A Minimum Instruction Time : 0

Correct Marks : 5 Wrong Marks : 1

Question Key Details :

Key	Value
Comprehension	MCQ

ಇವುಗಳಲ್ಲಿ ಯಾವುದು ಭವಿಷ್ಯದ GMP (ವಸ್ತು ತಯಾರಿಕಾ ಅಭ್ಯಾಸ) ಅಲ್ಲ?

1. ಸುಳ್ಳು ಲೇಬಲಿಂಗ್ ಕಡಿಮೆ ಮಾಡುವುದು
2. ಗ್ರಾಹಕ ಶಿಕ್ಷಣ
3. ಕಲಬೆರಕೆ ತೆಗೆದುಹಾಕುವುದು
4. ಗ್ರಾಹಕನನ್ನು ದಾರಿ ತಪ್ಪಿಸುವುದು

Options :

485584146213. 1
485584146214. 2
485584146215. 3
485584146216. 4

Question Number : 170 Question Id : 48558436555 Question Type : MCQ Option Shuffling : No Is Question Mandatory : No Calculator : None Response Time : N.A Think Time : N.A Minimum Instruction Time : 0

Correct Marks : 5 Wrong Marks : 1

Question Key Details :

Key	Value
Comprehension	MCQ

In the context of food standards regulations, which of the following is an international reference for quality management of an organisation?

1. ISO 6000
2. ISO 7000
3. ISO 8000
4. ISO 9000

Options :

485584146217. 1
485584146218. 2
485584146219. 3
485584146220. 4

Question Number : 170 Question Id : 48558436555 Question Type : MCQ Option Shuffling : No Is Question Mandatory : No Calculator : None Response Time : N.A Think Time : N.A Minimum Instruction Time : 0

Correct Marks : 5 Wrong Marks : 1

Question Key Details :

Key	Value
Comprehension	MCQ

ಆಹಾರ ಪ್ರಮಾಣಿತ ನಿಯಂತ್ರಣಕ್ಕೆ ಸಂಬಂಧಿಸಿದಂತೆ, ಈ ಕೆಳಗಿನ ಯಾವುದು ಸಂಸ್ಥೆಯ ಗುಣಮಟ್ಟ ನಿಯಂತ್ರಿಸುವ ಅಂತರಾಷ್ಟ್ರೀಯ ಉಲ್ಲೇಖವಾಗಿದೆ?

1. ISO 6000
2. ISO 7000
3. ISO 8000
4. ISO 9000

Options :

485584146217. 1
485584146218. 2
485584146219. 3
485584146220. 4

Question Number : 171 Question Id : 48558436556 Question Type : MCQ Option Shuffling : No Is Question Mandatory : No Calculator : None Response Time : N.A Think Time : N.A Minimum Instruction Time : 0

Correct Marks : 5 Wrong Marks : 1

Question Key Details :

Key	Value
Comprehension	MCQ

In the context of food safety, intentional or accidental addition of impure ingredients that alters the properties and diminishes the quality of food is known as _____.

1. Contamination
2. Toxicity
3. Adulteration
4. Hazard

Options :

485584146221. 1
485584146222. 2
485584146223. 3
485584146224. 4

Question Number : 171 Question Id : 48558436556 Question Type : MCQ Option Shuffling : No Is Question Mandatory : No Calculator : None Response Time : N.A Think Time : N.A Minimum Instruction Time : 0

Correct Marks : 5 Wrong Marks : 1

Question Key Details :

Key	Value
Comprehension	MCQ

ಆಹಾರ ಸುರಕ್ಷತೆಗೆ ಸಂಬಂಧಿಸಿದಂತೆ ಉದ್ದೇಶಪೂರ್ವಕವಾಗಿ ಅಥವಾ ಅಕಸ್ಮಿಕವಾಗಿ ಕಲ್ಪನೆಗಳು ಸೇರಿದಾಗ ಆಹಾರದ ಗುಣಧರ್ಮವನ್ನು ಬದಲಿಸುತ್ತದೆ ಮತ್ತು ಆಹಾರದ ಗುಣಮಟ್ಟವೂ ಕಡಿಮೆಯಾಗುವುದನ್ನು _____ ಎನ್ನುತ್ತಾರೆ.

1. ಮಾಲಿನ್ಯವಾಗುವುದು
2. ವಿಷವಾಗುವುದು
3. ಕಲಬೆರಕೆಯಾಗುವುದು
4. ಅಪಾಯಕಾರಿಯಾಗುವುದು

Options :

485584146221. 1
485584146222. 2
485584146223. 3
485584146224. 4

Question Number : 172 Question Id : 48558436557 Question Type : MCQ Option Shuffling : No Is Question Mandatory : No Calculator : None Response Time : N.A Think Time : N.A Minimum Instruction Time : 0

Correct Marks : 5 Wrong Marks : 1

Question Key Details :

Key	Value
Comprehension	MCQ

Fortification as an intervention is used under which of the following strategies to combat public nutrition problems ?

1. Nutrient based strategy
2. Medicinal strategy
3. Diet based strategy
4. Supplement based strategy

Options :

485584146225. 1
485584146226. 2
485584146227. 3
485584146228. 4

Question Number : 172 Question Id : 48558436557 Question Type : MCQ Option Shuffling : No Is Question Mandatory : No Calculator : None Response Time : N.A Think Time : N.A Minimum Instruction Time : 0

Correct Marks : 5 Wrong Marks : 1

Question Key Details :

Key	Value
Comprehension	MCQ

ಈ ಕೆಳಗಿನ ಯಾವ ಸಾರ್ವಜನಿಕ ಪೌಷ್ಟಿಕಾಂಶದ ಸಮಸ್ಯೆಗಳ ವಿರುದ್ಧ ಹೋರಾಡಲು ಭದ್ರತೆ ಎಂಬ ಹಸ್ತಕ್ಷೇಪವನ್ನು ಉಪಯೋಗಿಸಲಾಗುತ್ತದೆ?

1. ಪೌಷ್ಟಿಕಾಂಶ-ಆಧಾರಿತ ತಂತ್ರ
2. ವೈದ್ಯಕೀಯ ತಂತ್ರ
3. ಪಠ್ಯಾಹಾರ-ಆಧಾರಿತ ತಂತ್ರ
4. ಪ್ರೂರಕ-ಆಧಾರಿತ ತಂತ್ರ

Options :

485584146225. 1
485584146226. 2
485584146227. 3
485584146228. 4

Question Number : 173 Question Id : 48558436558 Question Type : MCQ Option Shuffling : No Is Question Mandatory : No Calculator : None Response Time : N.A Think Time : N.A Minimum Instruction Time : 0

Correct Marks : 5 Wrong Marks : 1

Question Key Details :

Key	Value
Comprehension	MCQ

Which of the following is referred to as "Hidden Hunger" in the context of nutritional problems?

1. Micronutrient deficiencies
2. Malnutrition
3. Stunting
4. Wasting

Options :

485584146229. 1
485584146230. 2
485584146231. 3
485584146232. 4

Question Number : 173 Question Id : 48558436558 Question Type : MCQ Option Shuffling : No Is Question Mandatory : No Calculator : None Response Time : N.A Think Time : N.A Minimum Instruction Time : 0

Correct Marks : 5 Wrong Marks : 1

Question Key Details :

Key	Value
Comprehension	MCQ

ಪೌಷ್ಟಿಕಾಂಶದ ಸಮಸ್ಯೆಗಳಿಗೆ ಸಂಬಂಧಿಸಿದಂತೆ "ಗುಪ್ತ ಹಸಿವು" ಈ ಕೆಳಗಿನ ಯಾವುದಕ್ಕೆ ಸಂಬಂಧಿಸಿದೆ?

1. ಸೂಕ್ಷ್ಮ-ಪೋಷಕಾಂಶ ಕೊರತೆಗಳು
2. ರಕ್ತಹೀನತೆ
3. ಕುಂಠಿತ
4. ವ್ಯರ್ಥ

Options :

485584146229. 1
485584146230. 2
485584146231. 3
485584146232. 4

Question Number : 174 Question Id : 48558436559 Question Type : MCQ Option Shuffling : No Is Question Mandatory : No Calculator : None Response Time : N.A Think Time : N.A Minimum Instruction Time : 0

Correct Marks : 5 Wrong Marks : 1

Question Key Details :

Key	Value
Comprehension	MCQ

Which of the following government body framed the National Nutrition Policy (NNP) of India in the year 1993?

1. Department of Women and Child Development
2. Ministry of Health and Family Welfare
3. Department of Science and Technology
4. Ministry of Consumer Affairs

Options :

485584146233. 1
485584146234. 2
485584146235. 3
485584146236. 4

Question Number : 174 Question Id : 48558436559 Question Type : MCQ Option Shuffling : No Is Question Mandatory : No Calculator : None Response Time : N.A Think Time : N.A Minimum Instruction Time : 0

Correct Marks : 5 Wrong Marks : 1

Question Key Details :

Key	Value
Comprehension	MCQ

ಈ ಕೆಳಗಿನ ಯಾವ ಸಂಸ್ಥೆಯು 'ರಾಷ್ಟ್ರೀಯ ಪ್ರೋಜೆಕ್ಟಾಂಶ ನೀತಿ' (NNP)ಯನ್ನು ಭಾರತದಲ್ಲಿ 1993ರಲ್ಲಿ ರಚಿಸಿತು?

1. ಮಹಿಳಾ ಮತ್ತು ಮಕ್ಕಳ ಅಭಿವೃದ್ಧಿ ಸಚಿವಾಲಯ
2. ಆಹಾರ ಮತ್ತು ಪ್ರೋಜೆಕ್ಟಾಂಶ ಸಚಿವಾಲಯ
3. ವಿಜ್ಞಾನ ಮತ್ತು ತಂತ್ರಜ್ಞಾನ ಸಚಿವಾಲಯ
4. ಗ್ರಾಹಕ ವ್ಯವಹಾರಗಳ ಸಚಿವಾಲಯ

Options :

485584146233. 1
485584146234. 2
485584146235. 3
485584146236. 4

Question Number : 175 Question Id : 48558436560 Question Type : MCQ Option Shuffling : No Is Question Mandatory : No Calculator : None Response Time : N.A Think Time : N.A Minimum Instruction Time : 0

Correct Marks : 5 Wrong Marks : 1

Question Key Details :

Key	Value
Comprehension	MCQ

Arrange the organizational structure / hierarchy followed by housekeeping department from top to bottom.

- A. Assistant housekeeper
- B. Room attendant
- C. Executive housekeeper
- D. Housemen
- E. Floor supervisor

Choose the correct answer from the options given below:

1. A, B, C, D, E
2. C, A, E, D, B
3. A, C, E, B, D
4. C, A, E, B, D

Options :

485584146237. 1
485584146238. 2
485584146239. 3
485584146240. 4

Question Number : 175 Question Id : 48558436560 Question Type : MCQ Option Shuffling : No Is Question Mandatory : No Calculator : None Response Time : N.A Think Time : N.A Minimum Instruction Time : 0

Correct Marks : 5 Wrong Marks : 1

Question Key Details :

Key	Value
-----	-------

ಗೃಹಕೃತ್ಯ ಇಲಾಖೆಯು ಸಾಮಾನ್ಯವಾಗಿ ಅನುಸರಿಸುವ ಸಂಘಟನಾ ರಚನೆ ಕ್ರಮಗಳನ್ನು ಮೇಲಿನಿಂದ ಕೆಳಗೆ ಕ್ರಮವಾಗಿ ವ್ಯವಸ್ಥೆಗೊಳಿಸಿ.

- ಸಹಾಯಕ ಹೌಸ್ ಕೀಪರ್
- ಕೊಠಡಿಯ ಪರಿಚಾರಕ
- ಕಾರ್ಯನಿರ್ವಾಹಕ ಹೌಸ್ ಕೀಪರ್
- ಮನೆಯವನು
- ಮಹಡಿ ಮೇಲ್ವಿಚಾರಕ

ಈ ಕೆಳಗಿನ ಆಯ್ಕೆಗಳಿಂದ ಸರಿಯಾದ ಉತ್ತರವನ್ನು ಆರಿಸಿ:

- A, B, C, D, E
- C, A, E, D, B
- A, C, E, B, D
- C, A, E, B, D

Options :

485584146237. 1
485584146238. 2
485584146239. 3
485584146240. 4

Question Number : 176 Question Id : 48558436561 Question Type : MCQ Option Shuffling : No Is Question Mandatory : No Calculator : None Response Time : N.A Think Time : N.A Minimum Instruction Time : 0

Correct Marks : 5 Wrong Marks : 1

Question Key Details :

Key	Value
Comprehension	MCQ

Give the correct sequence of different stages of apparel production.

- Finishing and packaging
- Procurement and inspection of raw material
- Laying and cutting of fabric / material
- Assembly of the product

Choose the correct answer from the options given below:

- A, B, C, D
- B, A, C, D
- D, A, B, C
- B, C, D, A

Options :

485584146241. 1
485584146242. 2

485584146243. 3

485584146244. 4

Question Number : 176 Question Id : 48558436561 Question Type : MCQ Option Shuffling : No Is Question Mandatory : No Calculator : None Response Time : N.A Think Time : N.A Minimum Instruction Time : 0

Correct Marks : 5 Wrong Marks : 1

Question Key Details :

Key	Value
Comprehension	MCQ

ಉಡುಪುಗಳ ತಯಾರಿಕೆಯ ಬೇರೆ ಬೇರೆ ಹಂತಗಳ ಸರಿಯಾದ ಶ್ರೇಣಿಯು:

- A. ಪಿನಿಷಿಂಗ್ ಮತ್ತು ಪ್ಯಾಕಿಂಗ್
- B. ಕಚ್ಚಾವಸ್ತುಗಳ ಖರೀದಿ ಮತ್ತು ಪರಿಶೀಲಿಸುವುದು
- C. ಬಟ್ಟೆಯನ್ನು ಹರಡುವುದು ಮತ್ತು ಕತ್ತರಿಸುವುದು
- D. ಉತ್ಪನ್ನಗಳನ್ನು ಜೋಡಿಸುವುದು

ಈ ಕೆಳಗಿನ ಆಯ್ಕೆಗಳಿಂದ ಸರಿಯಾದ ಉತ್ತರವನ್ನು ಆರಿಸಿ:

- 1. A, B, C, D
- 2. B, A, C, D
- 3. D, A, B, C
- 4. B, C, D, A

Options :

485584146241. 1

485584146242. 2

485584146243. 3

485584146244. 4

Question Number : 177 Question Id : 48558436562 Question Type : MCQ Option Shuffling : No Is Question Mandatory : No Calculator : None Response Time : N.A Think Time : N.A Minimum Instruction Time : 0

Correct Marks : 5 Wrong Marks : 1

Question Key Details :

Key	Value
Comprehension	MCQ

Arrange the given steps of nutritional care during illness in the correct sequence.

- A. Assessing nutritional status
- B. Planning and prioritising nutrition intervention(s)
- C. Diagnosis of nutritional problems
- D. Making changes in the nutritional care outcomes, if necessary
- E. Evaluating nutritional care outcomes

Choose the correct answer from the options given below:

- 1. C, B, A, D, E
- 2. C, E, B, A, D
- 3. A, C, B, E, D
- 4. A, C, B, D, E

Options :

- 485584146245. 1
- 485584146246. 2
- 485584146247. 3
- 485584146248. 4

Question Number : 177 Question Id : 48558436562 Question Type : MCQ Option Shuffling : No Is Question Mandatory : No Calculator : None Response Time : N.A Think Time : N.A Minimum Instruction Time : 0

Correct Marks : 5 Wrong Marks : 1

Question Key Details :

Key	Value
Comprehension	MCQ

ಕೆಳಗೆ ನೀಡಿರುವ ಪೌಷ್ಟಿಕಾಂಶದ ಆರೈಕೆಗಳ ಹಂತಗಳನ್ನು ಸರಿಯಾದ ಶ್ರೇಣಿಯಲ್ಲಿ ವ್ಯವಸ್ಥೆಗೊಳಿಸಿ.

- A. ಪೌಷ್ಟಿಕಾಂಶದ ಸ್ಥಿತಿಯನ್ನು ನಿರ್ಣಯಿಸುವುದು
- B. ಪೌಷ್ಟಿಕಾಂಶದ ಹಸ್ತಕ್ಷೇಪದ ಯೋಜನೆ ಮತ್ತು ಅದ್ಯತೆ
- C. ಸಮಸ್ಯೆ ಗುರುತಿಸುವುದು
- D. ಅವಶ್ಯವಿದ್ದಲ್ಲಿ, ಬದಲಾಯಿಸುವುದು
- E. ಪೌಷ್ಟಿಕಾಂಶದ ಆರೈಕೆಯ ಫಲಿತಾಂಶವನ್ನು ಮೌಲ್ಯೀಕರಿಸುವುದು

ಈ ಕೆಳಗಿನ ಆಯ್ಕೆಗಳಿಂದ ಸರಿಯಾದ ಉತ್ತರವನ್ನು ಆರಿಸಿ:

- 1. C, B, A, D, E
- 2. C, E, B, A, D
- 3. A, C, B, E, D
- 4. A, C, B, D, E

Options :

- 485584146245. 1
- 485584146246. 2
- 485584146247. 3

485584146248. 4

Question Number : 178 Question Id : 48558436563 Question Type : MCQ Option Shuffling : No Is Question Mandatory : No Calculator : None Response Time : N.A Think Time : N.A Minimum Instruction Time : 0

Correct Marks : 5 Wrong Marks : 1

Question Key Details :

Key	Value
Comprehension	MCQ

Which of the following is NOT a department/sector in hospitality industry?

1. Recruitment and staffing
2. Entertainment and recreation
3. Accommodation or front office
4. Food and beverage service

Options :

485584146249. 1
485584146250. 2
485584146251. 3
485584146252. 4

Question Number : 178 Question Id : 48558436563 Question Type : MCQ Option Shuffling : No Is Question Mandatory : No Calculator : None Response Time : N.A Think Time : N.A Minimum Instruction Time : 0

Correct Marks : 5 Wrong Marks : 1

Question Key Details :

Key	Value
Comprehension	MCQ

ಈ ಕೆಳಗಿನವುಗಳಲ್ಲಿ ಯಾವುದು ಆತಿಥ್ಯ ನಿರ್ವಹಣೆಯಲ್ಲಿ ಬರುವ ಮುಖ್ಯ ಇಲಾಖೆಗಳು?

1. ಮನೋರಂಜನೆ ಮತ್ತು ವಿನೋದ
2. ನೇಮಕಾತಿ ಮತ್ತು ಸಿಬ್ಬಂದಿ
3. ಆಹಾರ ಮತ್ತು ಮದ್ಯ ಸೇವನೆ
4. ತರಬೇತಿ ಮತ್ತು ಅಭಿವೃದ್ಧಿ

Options :

485584146249. 1
485584146250. 2
485584146251. 3
485584146252. 4

Question Number : 179 Question Id : 48558436564 Question Type : MCQ Option Shuffling : No Is Question Mandatory : No Calculator : None Response Time : N.A Think Time : N.A Minimum Instruction Time : 0

Correct Marks : 5 Wrong Marks : 1

Question Key Details :

Key	Value
-----	-------

Which of the following falls under the category of rewards given to sustain high performance employees in an organisation ?

- A. Paid holidays
- B. Tax incentives
- C. Financial packages for children's education
- D. Financial compensation like driver's wages
- E. Disability insurance

Choose the correct answer from the options given below:

- 1. A, C and E only
- 2. A, C and D only
- 3. A, D and E only
- 4. B, C and D only

Options :

- 485584146253. 1
- 485584146254. 2
- 485584146255. 3
- 485584146256. 4

Question Number : 179 Question Id : 48558436564 Question Type : MCQ Option Shuffling : No Is Question Mandatory : No Calculator : None Response Time : N.A Think Time : N.A Minimum Instruction Time : 0

Correct Marks : 5 Wrong Marks : 1

Question Key Details :

Key	Value
Comprehension	MCQ

ಸಂಸ್ಥೆಯಲ್ಲಿ ಅತ್ಯುತ್ತಮ ಕೆಲಸ ನಿರ್ವಹಿಸುವ ನೌಕರರಿಗೆ ಕೊಡುವ ಬಹುಮಾನವು ಈ ಕೆಳಗಿನ ಯಾವ ವರ್ಗದಲ್ಲಿ ಬರುತ್ತದೆ?

- A. ರಜಾ ಪಾವತಿ
- B. ತೆರಿಗೆ ಪ್ರೋತ್ಸಾಹನೆ
- C. ಮಕ್ಕಳ ಶಿಕ್ಷಣಕ್ಕಾಗಿ ಹಣಕಾಸಿನ ನೆರವು
- D. ಚಾಲಕರ ವೇತನದಂತಹ ಆರ್ಥಿಕ ಪರಿಹಾರ
- E. ಅಂಗವಿಕಲ ವಿಮೆ

ಈ ಕೆಳಗಿನ ಆಯ್ಕೆಗಳಿಂದ ಸರಿಯಾದ ಉತ್ತರವನ್ನು ಆರಿಸಿ:

- 1. A, C ಮತ್ತು E ಮಾತ್ರ
- 2. A, C ಮತ್ತು D ಮಾತ್ರ
- 3. A, D ಮತ್ತು E ಮಾತ್ರ
- 4. B, C ಮತ್ತು D ಮಾತ್ರ

Options :

485584146253. 1
485584146254. 2
485584146255. 3
485584146256. 4

Question Number : 180 Question Id : 48558436565 Question Type : MCQ Option Shuffling : No Is Question Mandatory : No Calculator : None Response Time : N.A Think Time : N.A Minimum Instruction Time : 0

Correct Marks : 5 Wrong Marks : 1

Question Key Details :

Key	Value
Comprehension	MCQ

Which of the following is NOT a function of human resources/talent management?

1. Marketing management
2. Getting the best employees
3. Retention and redressal
4. Training and developing employees

Options :

485584146257. 1
485584146258. 2
485584146259. 3
485584146260. 4

Question Number : 180 Question Id : 48558436565 Question Type : MCQ Option Shuffling : No Is Question Mandatory : No Calculator : None Response Time : N.A Think Time : N.A Minimum Instruction Time : 0

Correct Marks : 5 Wrong Marks : 1

Question Key Details :

Key	Value
Comprehension	MCQ

ಈ ಕೆಳಗಿನವುಗಳಲ್ಲಿ ಯಾವುದು ಮಾನವ ಸಂಪನ್ಮೂಲ/ಟ್ಯಾಲ್ಂಟ್ ಮ್ಯಾನೇಜ್ ಮೆಂಟ್ ನ ಒಂದು ಕಾರ್ಯವಲ್ಲ?

1. ಮಾರ್ಕೆಟಿಂಗ್ ನಿರ್ವಹಣೆ
2. ಅತ್ಯುತ್ತಮ ಉದ್ಯೋಗಿಗಳನ್ನು ಪಡೆಯುವುದು
3. ಉಳಿಸಿಕೊಳ್ಳುವಿಕೆ ಮತ್ತು ಪರಿಹಾರ
4. ಉದ್ಯೋಗಿಗಳಿಗೆ ತರಬೇತಿ ಮತ್ತು ಅಭಿವೃದ್ಧಿ

Options :

485584146257. 1
485584146258. 2
485584146259. 3
485584146260. 4

Question Number : 181 Question Id : 48558436566 Question Type : MCQ Option Shuffling : No Is Question Mandatory : No Calculator : None Response Time : N.A Think Time : N.A Minimum Instruction Time : 0

Correct Marks : 5 Wrong Marks : 1

Question Key Details :

Key	Value
Comprehension	MCQ

A diet can be modified to meet the medical needs of a patient through which of the following?

- A. Changing consistency and/or texture
- B. Adding supplements
- C. Increase or decrease in the amount of one or more nutrients
- D. Increase or decrease in calorie intake
- E. Making an all fruit diet

Choose the correct answer from the options given below:

- 1. A, B and E only
- 2. A, C and E only
- 3. B, C and D only
- 4. A, C and D only

Options :

- 485584146261. 1
- 485584146262. 2
- 485584146263. 3
- 485584146264. 4

Question Number : 181 Question Id : 48558436566 Question Type : MCQ Option Shuffling : No Is Question Mandatory : No Calculator : None Response Time : N.A Think Time : N.A Minimum Instruction Time : 0

Correct Marks : 5 Wrong Marks : 1

Question Key Details :

Key	Value
Comprehension	MCQ

ವ್ಯಕ್ತಿಯ ವೈದ್ಯಕೀಯ ಅಗತ್ಯತೆಗಳಿಗೆ ಅನುಗುಣವಾಗಿ, ಪಠ್ಯಾಹಾರವನ್ನು ಹೀಗೆ ಸುಧಾರಿಸಬಹುದು:

- A. ಸ್ಥಿರತೆ ಅಥವಾ ವಿನ್ಯಾಸವನ್ನು ಬದಲಾಯಿಸುವುದು
- B. ಪೂರಕ ಆಹಾರ ಸೇರಿಸುವುದು
- C. ಪೋಷಕಾಂಶವನ್ನು ಹೆಚ್ಚು-ಕಡಿಮೆ ಮಾಡುವುದು
- D. ಕ್ಯಾಲೋರಿ ತೆಗೆದುಕೊಳ್ಳುವ ಪ್ರಮಾಣವನ್ನು ಹೆಚ್ಚು-ಕಡಿಮೆ ಮಾಡುವುದು
- E. ಎಲ್ಲ ಹಣ್ಣುಗಳಿಗಿರುವ ಪಠ್ಯಾಹಾರ

ಈ ಕೆಳಗಿನ ಆಯ್ಕೆಗಳಿಂದ ಸರಿಯಾದ ಉತ್ತರವನ್ನು ಆರಿಸಿ:

- 1. A, B ಮತ್ತು E ಮಾತ್ರ
- 2. A, C ಮತ್ತು E ಮಾತ್ರ
- 3. B, C ಮತ್ತು D ಮಾತ್ರ
- 4. A, C ಮತ್ತು D ಮಾತ್ರ

Options :

- 485584146261. 1
- 485584146262. 2
- 485584146263. 3
- 485584146264. 4

Question Number : 182 Question Id : 48558436567 Question Type : MCQ Option Shuffling : No Is Question Mandatory : No Calculator : None Response Time : N.A Think Time : N.A Minimum Instruction Time : 0

Correct Marks : 5 Wrong Marks : 1

Question Key Details :

Key	Value
Comprehension	MCQ

Shreya wants to design a dress by incorporating rhythm design principle. Which of the following can NOT be used to create rhythm?

- 1. Use of contrasting colours
- 2. Cordation
- 3. Radiation
- 4. Parallelism

Options :

- 485584146265. 1
- 485584146266. 2
- 485584146267. 3
- 485584146268. 4

Question Number : 182 Question Id : 48558436567 Question Type : MCQ Option Shuffling : No Is Question Mandatory : No Calculator : None Response Time : N.A Think Time : N.A Minimum Instruction Time : 0

Correct Marks : 5 Wrong Marks : 1

Question Key Details :

Key	Value
Comprehension	MCQ

ರಿದಮ್ ಡಿಸೈನ್ ತತ್ವವನ್ನು ಅಳವಡಿಸಿಕೊಳ್ಳುವ ಮೂಲಕ ಶ್ರೇಯಾ ಉಡುಪನ್ನು ವಿನ್ಯಾಸಗೊಳಿಸಲು ಬಯಸುತ್ತಾರೆ. ಲಯವನ್ನು ರಚಿಸಲು ಈ ಕೆಳಗಿನವುಗಳಲ್ಲಿ ಯಾವುದನ್ನು ಬಳಸಲಾಗುವುದಿಲ್ಲ?

1. ವ್ಯತಿರಿಕ್ತ ಬಣ್ಣಗಳ ಬಳಕೆ
2. ಸೌಹಾರ್ದತೆ
3. ವಿಕಿರಣ
4. ಸಮಾನಾಂತರತೆ

Options :

485584146265. 1
485584146266. 2
485584146267. 3
485584146268. 4

Question Number : 183 Question Id : 48558436568 Question Type : MCQ Option Shuffling : No Is Question Mandatory : No Calculator : None Response Time : N.A Think Time : N.A Minimum Instruction Time : 0

Correct Marks : 5 Wrong Marks : 1

Question Key Details :

Key	Value
Comprehension	MCQ

Identify the aspects relating to care and maintenance of fabrics:

- A. Keeping the material free of physical damage
- B. Discard clothes if any damage occurs
- C. Refreshing or retaining the appearance by removing stains and dirt
- D. Retaining the textural and visual characteristics
- E. Changing the visual characteristics

Choose the correct answer from the options given below:

1. A, B and C only
2. B, C and D only
3. C, D and E only
4. A, C and D only

Options :

485584146269. 1
485584146270. 2
485584146271. 3
485584146272. 4

Question Number : 183 Question Id : 48558436568 Question Type : MCQ Option Shuffling : No Is Question Mandatory : No Calculator : None Response Time : N.A Think Time : N.A Minimum Instruction Time : 0

Correct Marks : 5 Wrong Marks : 1

Question Key Details :

Key	Value
Comprehension	MCQ

ಬಟ್ಟೆಯ ಆರೈಕೆ ಮತ್ತು ನಿರ್ವಹಣೆ ಈ ಕೆಳಗಿನ ಅಂಶಗಳನ್ನು ಒಳಗೊಂಡಿದೆ. ಅವುಗಳನ್ನು ಗುರುತಿಸಿ:

- ಭೌತಿಕ ಹಾನಿಗೊಳಗಾಗದ ರೀತಿಯಲ್ಲಿ ಇಡುವುದು
- ಹಾನಿ ಏನಾದರೂ ಆದರೆ ಬಟ್ಟೆಯನ್ನು ಎಸೆಯಿರಿ
- ಕಲೆ ಮತ್ತು ಕೊಳೆಯನ್ನು ತೆಗೆದುಹಾಕುವ ಮೂಲಕ ತಾಜಾ ರೂಪದಲ್ಲಿಡಿ
- ರಚನೆ ಮತ್ತು ದೃಶ್ಯ ಗುಣಗಳನ್ನು ಹಾಗೇ ಉಳಿಸಿಕೊಳ್ಳುವುದು
- ದೃಶ್ಯಗುಣಗಳನ್ನು ಬದಲಾಯಿಸುವುದು

ಈ ಕೆಳಗಿನ ಆಯ್ಕೆಗಳಿಂದ ಸರಿಯಾದ ಉತ್ತರವನ್ನು ಆರಿಸಿ:

- A, B ಮತ್ತು C ಮಾತ್ರ
- B, C ಮತ್ತು D ಮಾತ್ರ
- C, D ಮತ್ತು E ಮಾತ್ರ
- A, C ಮತ್ತು D ಮಾತ್ರ

Options :

485584146269. 1
485584146270. 2
485584146271. 3
485584146272. 4

Question Number : 184 Question Id : 48558436569 Question Type : MCQ Option Shuffling : No Is Question Mandatory : No Calculator : None Response Time : N.A Think Time : N.A Minimum Instruction Time : 0

Correct Marks : 5 Wrong Marks : 1

Question Key Details :

Key	Value
Comprehension	MCQ

Which of the following does NOT fall under the category of straight lines ?

- Vertical
- Zig-zag
- Horizontal
- Diagonal

Options :

485584146273. 1
485584146274. 2
485584146275. 3
485584146276. 4

Question Number : 184 Question Id : 48558436569 Question Type : MCQ Option Shuffling : No Is Question Mandatory : No Calculator : None Response Time : N.A Think Time : N.A Minimum Instruction Time : 0

Correct Marks : 5 Wrong Marks : 1

Question Key Details :

Key	Value
Comprehension	MCQ

ಈ ಕೆಳಗಿನವುಗಳಲ್ಲಿ ಯಾವುದು ಸರಳರೇಷಿಂಗ್ ವರ್ಗಕ್ಕೆ ಬರುವುದಿಲ್ಲ?

1. ಲಂಬ
2. ವಕ್ರ
3. ಸಮತಲ
4. ಕರ್ಣೀಯ

Options :

485584146273. 1
485584146274. 2
485584146275. 3
485584146276. 4

Question Number : 185 Question Id : 48558436570 Question Type : MCQ Option Shuffling : No Is Question Mandatory : No Calculator : None Response Time : N.A Think Time : N.A Minimum Instruction Time : 0

Correct Marks : 5 Wrong Marks : 1

Question Key Details :

Key	Value
Comprehension	MCQ

Match List I with List II

LIST I (Processed foods)		LIST II (Examples)	
A.	Preserved foods	I.	Low sodium salt
B.	Manufactured foods	II.	Canned fruits
C.	Formulated foods	III.	Papads
D.	Medical foods	IV.	Ice creams

Choose the correct answer from the options given below:

1. A-I, B-II, C-III, D-IV
2. A-II, B-III, C-I, D-IV
3. A-III, B-II, C-I, D-IV
4. A-II, B-III, C-IV, D-I

Options :

485584146277. 1
485584146278. 2
485584146279. 3
485584146280. 4

Question Number : 185 Question Id : 48558436570 Question Type : MCQ Option Shuffling : No Is Question Mandatory : No Calculator : None Response Time : N.A Think Time : N.A Minimum Instruction Time : 0

Correct Marks : 5 Wrong Marks : 1

Question Key Details :

Key	Value
Comprehension	MCQ

ಪಟ್ಟಿ - I ಅನ್ನು ಪಟ್ಟಿ - IIರ ಜೊತೆ ಹೊಂದಿಸಿ.

ಪಟ್ಟಿ - I (ಆಹಾರಗಳು)	ಪಟ್ಟಿ - II (ಉದಾಹರಣೆಗಳು)
A. ಸಂರಕ್ಷಿತ ಆಹಾರಗಳು	I. ಕಡಿಮೆ ಸೋಡಿಯಂ ಲವಣ
B. ತಯಾರಿಸಿದ ಆಹಾರಗಳು	II. ಡಬ್ಬಿಂಗ್‌ನಿಂದ ಹಣ್ಣುಗಳು
C. ಸೂಕ್ಷ್ಮೀಕರಿಸಿದ ಆಹಾರಗಳು	III. ಹಪ್ಪಳಗಳು
D. ಔಷಧೀಯ ಆಹಾರಗಳು	IV. ಐಸಕ್ರೀಮ್ಸ್

ಈ ಕೆಳಗಿನ ಆಯ್ಕೆಗಳಿಂದ ಸರಿಯಾದ ಉತ್ತರವನ್ನು ಆರಿಸಿ:

1. A-I, B-II, C-III, D-IV
2. A-II, B-III, C-I, D-IV
3. A-III, B-II, C-I, D-IV
4. A-II, B-III, C-IV, D-I

Options :

485584146277. 1
485584146278. 2
485584146279. 3
485584146280. 4

Question Number : 186 Question Id : 48558436571 Question Type : MCQ Option Shuffling : No Is Question Mandatory : No Calculator : None Response Time : N.A Think Time : N.A Minimum Instruction Time : 0

Correct Marks : 5 Wrong Marks : 1

Question Key Details :

Key	Value
Comprehension	MCQ

Match List I with List II

LIST I (Terms)		LIST II (Explanation)	
A.	Food Quality	I.	Assurance that food will not cause any harm to the consumers
B.	Toxicity	II.	Relative probability that harm or injury will result when substance is not used in prescribed manner and quantity
C.	Food Safety	III.	Capacity of a substance to produce harm or injury of any kind under any conditions
D.	Hazard	IV.	Attributes that influence a product's value to consumers

Choose the correct answer from the options given below:

1. A-IV, B-III, C-I, D-II
2. A-I, B-II, C-III, D-IV
3. A-I, B-IV, C-II, D-III
4. A-IV, B-III, C-II, D-I

Options :

485584146281. 1
485584146282. 2
485584146283. 3
485584146284. 4

Question Number : 186 Question Id : 48558436571 Question Type : MCQ Option Shuffling : No Is Question Mandatory : No Calculator : None Response Time : N.A Think Time : N.A Minimum Instruction Time : 0

Correct Marks : 5 Wrong Marks : 1

Question Key Details :

Key	Value
Comprehension	MCQ

ಪಟ್ಟಿ - I ಅನ್ನು ಪಟ್ಟಿ - IIರ ಜೊತೆ ಹೊಂದಿಸಿ.

ಪಟ್ಟಿ - I (ಪದಗಳು)	ಪಟ್ಟಿ - II (ವಿವರಣೆ)
A. ಆಹಾರ ಗುಣಮಟ್ಟ	I. ಆಹಾರ ಹಾನಿಮಾಡುವುದಿಲ್ಲವೆಂದು ಖಾತರಿಪಡಿಸುತ್ತದೆ
B. ವಿಷಕಾರಿತ್ವ	II. ನಿರ್ದೇಶಿತ ರೀತಿಯಲ್ಲಿ ಬಳಸದಿದ್ದರೆ ಸಾಪೇಕ್ಷ ಸಂಭವನೀಯವಾಗಿ ಹಾನಿ ಆಧವಾ ಪ್ರಭಾವ ಬೀರುತ್ತದೆ
C. ಆಹಾರ ಸುರಕ್ಷತೆ	III. ಒಂದು ಪದಾರ್ಥದ ಹಾನಿಯುಂಟು ಮಾಡುವ ಸಾಮರ್ಥ್ಯ
D. ಅಪಾಯ	IV. ಗ್ರಾಹಕನಿಗೆ ಒಂದು ಉತ್ಪನ್ನದ ಮೌಲ್ಯವನ್ನು ಪ್ರಭಾವಿಸುವ ಗುಣಗಳು

ಈ ಕೆಳಗಿನ ಆಯ್ಕೆಗಳಿಂದ ಸರಿಯಾದ ಉತ್ತರವನ್ನು ಆರಿಸಿ:

1. A-IV, B-III, C-I, D-II
2. A-I, B-II, C-III, D-IV
3. A-I, B-IV, C-II, D-III
4. A-IV, B-III, C-II, D-I

Options :

485584146281. 1
485584146282. 2
485584146283. 3
485584146284. 4

Question Number : 187 Question Id : 48558436572 Question Type : MCQ Option Shuffling : No Is Question Mandatory : No Calculator : None Response Time : N.A Think Time : N.A Minimum Instruction Time : 0

Correct Marks : 5 Wrong Marks : 1

Question Key Details :

Key	Value
Comprehension	MCQ

Match List I with List II

LIST I (Extension Projects)		LIST II (Communication tools used)	
A.	RRE	I.	Satellite
B.	SEWA	II.	Print media
C.	Project Village Chhatara	III.	Campaign
D.	EDUSAT	IV.	ICT

Choose the correct answer from the options given below:

1. A-II, B-I, C-IV, D-III
2. A-IV, B-I, C-III, D-II
3. A-III, B-IV, C-II, D-I
4. A-II, B-III, C-I, D-IV

Options :

485584146285. 1
485584146286. 2
485584146287. 3
485584146288. 4

Question Number : 187 Question Id : 48558436572 Question Type : MCQ Option Shuffling : No Is Question Mandatory : No Calculator : None Response Time : N.A Think Time : N.A Minimum Instruction Time : 0

Correct Marks : 5 Wrong Marks : 1

Question Key Details :

Key	Value
Comprehension	MCQ

ಪಟ್ಟಿ - I ಅನ್ನು ಪಟ್ಟಿ - IIರ ಜೊತೆ ಹೊಂದಿಸಿ.

ಪಟ್ಟಿ - I (ವಿಸ್ತರಣ ಯೋಜನೆಗಳು)		ಪಟ್ಟಿ - II (ಸಂವಹನ ಸಾಧನ ಬಳಸಿರುವುದು)	
A.	RRE	I.	ದೂರದರ್ಶನ
B.	SEWA	II.	ವರ್ಣ ಮಾಧ್ಯಮ
C.	ಪ್ರಾಜೆಕ್ಟ್ ವಿಲೇಜ್ ಚಹಟಾರಾ	III.	ಪ್ರಚಾರ
D.	EDUSAT	IV.	ICT

ಈ ಕೆಳಗಿನ ಆಯ್ಕೆಗಳಿಂದ ಸರಿಯಾದ ಉತ್ತರವನ್ನು ಆರಿಸಿ:

1. A-II, B-I, C-IV, D-III
2. A-IV, B-I, C-III, D-II
3. A-III, B-IV, C-II, D-I
4. A-II, B-III, C-I, D-IV

Options :

485584146285. 1
485584146286. 2
485584146287. 3
485584146288. 4

Question Number : 188 Question Id : 48558436573 Question Type : MCQ Option Shuffling : No Is Question Mandatory : No Calculator : None Response Time : N.A Think Time : N.A Minimum Instruction Time : 0

Correct Marks : 5 Wrong Marks : 1

Question Key Details :

Key	Value
Comprehension	MCQ

Match List I with List II

LIST I (Terms)		LIST II (Description)	
A	Quality Assurance	I.	Process of implementation and monitoring of quality systems like TQM, ISO
B	Quality control	II.	Process of problem solving with the purpose of getting a 'zero-defect' product
C	Quality Management	III.	Characteristics of the product that are given by the buyer or desired by the consumer
D	Specifications	IV.	Process of preventive problem management

Choose the correct answer from the options given below:

1. A-IV, B-II, C-I, D-III
2. A-IV, B-I, C-II, D-III
3. A-IV, B-II, C-III, D-I
4. A-I, B-II, C-IV, D-III

Options :

485584146289. 1
485584146290. 2
485584146291. 3
485584146292. 4

Question Number : 188 Question Id : 48558436573 Question Type : MCQ Option Shuffling : No Is Question Mandatory : No Calculator : None Response Time : N.A Think Time : N.A Minimum Instruction Time : 0

Correct Marks : 5 Wrong Marks : 1

Question Key Details :

Key	Value
Comprehension	MCQ

ಪಟ್ಟಿ - I ಅನ್ನು ಪಟ್ಟಿ - IIರ ಜೊತೆ ಹೊಂದಿಸಿ.

ಪಟ್ಟಿ - I (ಪದ)		ಪಟ್ಟಿ - II (ಅರ್ಥ)	
A.	ಗುಣಮಟ್ಟ ಸುರಕ್ಷತೆ	I.	ಗುಣಮಟ್ಟ ಪದ್ಧತಿಗಳ ಅನುಷ್ಠಾನ ಮತ್ತು ನೋಡಿಕೊಳ್ಳುವ ಪ್ರಕ್ರಿಯೆ
B.	ಗುಣಮಟ್ಟ ನಿಯಂತ್ರಣ	II.	ಶೂನ್ಯ ನ್ಯೂನತೆ ಉತ್ಪನ್ನವನ್ನು ಪಡೆಯುವ ಒಂದು ಉದ್ದೇಶದೊಂದಿಗೆ ಸಮಸ್ಯೆ ಪರಿಹರಿಸುವ ಪ್ರಕ್ರಿಯೆ
C.	ಗುಣಮಟ್ಟ ನಿರ್ವಹಣೆ	III.	ಹೊಂಡುಕೊಳ್ಳುವವನು ನೀಡಿದ ನ್ಯೂನತಾ ಉತ್ಪನ್ನದ ಗುಣಲಕ್ಷಣಗಳು
D.	ನಿರ್ದಿಷ್ಟತೆಗಳು	IV.	ಪ್ರತಿಬಂಧ ಸಮಸ್ಯೆ ನಿರ್ವಹಣೆಯ ಪ್ರಕ್ರಿಯೆ

ಈ ಕೆಳಗಿನ ಆಯ್ಕೆಗಳಿಂದ ಸರಿಯಾದ ಉತ್ತರವನ್ನು ಆರಿಸಿ:

1. A-IV, B-II, C-I, D-III
2. A-IV, B-I, C-II, D-III
3. A-IV, B-II, C-III, D-I
4. A-I, B-II, C-IV, D-III

Options :

485584146289. 1
485584146290. 2
485584146291. 3
485584146292. 4

Question Number : 189 Question Id : 48558436574 Question Type : MCQ Option Shuffling : No Is Question Mandatory : No Calculator : None Response Time : N.A Think Time : N.A Minimum Instruction Time : 0

Correct Marks : 5 Wrong Marks : 1

Question Key Details :

Key	Value
Comprehension	MCQ

Match List I with List II

LIST I (Designations)		LIST II (Duties)	
A.	Head waiter	I.	Reserves, registers and assign rooms to guests
B.	Chef-de-cuisine	II.	Supervisors for some sections of the kitchen
C.	Receptionist	III.	Lead a team of waiters/stewards
D.	Chef-de-parties	IV.	Planning, organising and controlling the kitchen operations

Choose the correct answer from the options given below:

1. A-III, B-IV, C-I, D-II
2. A-II, B-IV, C-III, D-I
3. A-I, B-II, C-III, D-IV
4. A-IV, B-II, C-I, D-III

Options :

485584146293. 1
485584146294. 2
485584146295. 3
485584146296. 4

Question Number : 189 Question Id : 48558436574 Question Type : MCQ Option Shuffling : No Is Question Mandatory : No Calculator : None Response Time : N.A Think Time : N.A Minimum Instruction Time : 0

Correct Marks : 5 Wrong Marks : 1

Question Key Details :

Key	Value
Comprehension	MCQ

ಪಟ್ಟಿ - I ಅನ್ನು ಪಟ್ಟಿ - IIರ ಜೊತೆ ಹೊಂದಿಸಿ.

ಪಟ್ಟಿ - I (ಹುದ್ದೆಗಳು)		ಪಟ್ಟಿ - II (ಜವಾಬ್ದಾರಿ)	
A.	ಮುಖ್ಯಪರಿಚಾರಕ	I.	ಕಛೇರಿ ಮುಂಭಾಗ ಇಲಾಖೆ
B.	ಚೆಫ್-ಡಿ-ಕ್ಯೂಸಿನ್	II.	ಮನೆ ನಿರ್ವಹಣಾ ಇಲಾಖೆ
C.	ಸ್ವಾಗತಕಾರ	III.	ಆಹಾರ ಮತ್ತು ಪಾನೀಯ ಇಲಾಖೆ
D.	ಮುಖ್ಯ ಯಜಮಾನ	IV.	ಅಡುಗೆಮನೆ ಇಲಾಖೆ

ಈ ಕೆಳಗಿನ ಆಯ್ಕೆಗಳಿಂದ ಸರಿಯಾದ ಉತ್ತರವನ್ನು ಆರಿಸಿ:

1. A-III, B-IV, C-I, D-II
2. A-II, B-IV, C-III, D-I
3. A-I, B-II, C-III, D-IV
4. A-IV, B-II, C-I, D-III

Options :

485584146293. 1
485584146294. 2

485584146295. 3

485584146296. 4

Question Number : 190 Question Id : 48558436575 Question Type : MCQ Option Shuffling : No Is Question Mandatory : No Calculator : None Response Time : N.A Think Time : N.A Minimum Instruction Time : 0

Correct Marks : 5 Wrong Marks : 1

Question Key Details :

Key	Value
Comprehension	MCQ

Match List I with List II

LIST I (Programme)		LIST II (Target group)	
A.	ICDS	I.	Children under 18 years of age
B.	SOS	II.	College going students
C.	Special homes	III.	Children below six years of age
D.	NSS	IV.	Needy/abandoned children

Choose the correct answer from the options given below:

1. A-I, B-IV, C-II, D-I
2. A-IV, B-III, C-I, D-II
3. A-III, B-IV, C-I, D-II
4. A-IV, B-III, C-II, D-I

Options :

485584146297. 1

485584146298. 2

485584146299. 3

485584146300. 4

Question Number : 190 Question Id : 48558436575 Question Type : MCQ Option Shuffling : No Is Question Mandatory : No Calculator : None Response Time : N.A Think Time : N.A Minimum Instruction Time : 0

Correct Marks : 5 Wrong Marks : 1

Question Key Details :

Key	Value
Comprehension	MCQ

ಪಟ್ಟಿ - I ಅನ್ನು ಪಟ್ಟಿ - IIರ ಜೊತೆ ಹೊಂದಿಸಿ.

ಪಟ್ಟಿ - I (ಕಾರ್ಯಕ್ರಮ)	ಪಟ್ಟಿ - II (ಗುರಿ ಮಾಡಿದ ಸಮೂಹ)
A. ICDS	I. 18 ವರ್ಷಕ್ಕಿಂತ ಕಡಿಮೆ ವಯಸ್ಸಿನ ಮಕ್ಕಳು
B. SOS	II. ಕಾಲೇಜಿಗೆ ಹೋಗುವ ವಿದ್ಯಾರ್ಥಿಗಳು
C. ವಿಶೇಷ ಮನೆಗಳು	III. ಆರು ವರ್ಷಕ್ಕಿಂತ ಕಡಿಮೆ ವಯಸ್ಸಿನ ಮಕ್ಕಳು
D. NSS	IV. ನಿರ್ಗತಿಕ/ಪರಿತ್ಯಕ್ತ ಮಕ್ಕಳು

ಈ ಕೆಳಗಿನ ಆಯ್ಕೆಗಳಿಂದ ಸರಿಯಾದ ಉತ್ತರವನ್ನು ಆರಿಸಿ:

1. A-I, B-IV, C-II, D-I
2. A-IV, B-III, C-I, D-II
3. A-III, B-IV, C-I, D-II
4. A-IV, B-III, C-II, D-I

Options :

485584146297. 1
485584146298. 2
485584146299. 3
485584146300. 4

Sub-Section Number :

2

Sub-Section Id :

4855842700

Question Shuffling Allowed :

No

Is Section Default? :

null

Question Number : 191 Question Id : 48558436576 Question Type : MCQ Option Shuffling : No Is Question Mandatory : No Calculator : None Response Time : N.A Think Time : N.A Minimum Instruction Time : 0

Correct Marks : 5 Wrong Marks : 1

Question Key Details :

Key	Value
Comprehension	Comp1

Read the passage carefully. Attempt Question

Anganwadi Centers (AWCs) are the most common and publicly available facilities, initially constituted in 1975 to strengthen the public health system by providing immunization and health check-ups, and later to provide supplementary nutrition non-formal pre-school education and day-care.

The two key elements of early childhood development include education and health. A child's early years (0 to 8 years) form the foundation of all learning and are therefore the most extraordinary period of development in a child's life. Research has shown that greater cognitive abilities and being developmentally on track with literacy and numeracy in childhood provide for better learning in school and higher educational attainment, leading to major social and economic gains for society in the long run. Similarly, providing children with a nurturing environment in early years, with adequate nutrition, hygiene, protection and responsive stimulation, boosts healthy childhood development and delivers positive outcomes.

The Anganwadi centers were started in which year in India?

1. 1975
2. 1980
3. 1982
4. 1984

Options :

485584146301. 1
485584146302. 2
485584146303. 3
485584146304. 4

Question Number : 191 Question Id : 48558436576 Question Type : MCQ Option Shuffling : No Is Question Mandatory : No Calculator : None Response Time : N.A Think Time : N.A Minimum Instruction Time : 0

Correct Marks : 5 Wrong Marks : 1

Question Key Details :

Key	Value
Comprehension	Compl

ವಾಕ್ಯ ಪುಂಜವನ್ನು ಓದಿ ಮತ್ತು ಪ್ರಶ್ನೆಗೆ ಉತ್ತರಿಸಿ:

ಆಂಗನವಾಡಿ ಕೇಂದ್ರಗಳು (AWCS) ಅತ್ಯಂತ ಸಾಧಾರಣ ಮತ್ತು ಸಾರ್ವಜನಿಕವಾಗಿ ದೂರಕುವ ಸೌಲಭ್ಯಗಳಾಗಿದ್ದು ಮೊದಲಿಗೆ 1975 ರಲ್ಲಿ ರೋಗ ನಿರೋಧನೆ ಮತ್ತು ಆರೋಗ್ಯ ತಪಾಸಣೆಗಳನ್ನು ನೀಡಿ, ಸಾರ್ವಜನಿಕ ಆರೋಗ್ಯ ವ್ಯವಸ್ಥೆಯನ್ನು ಬಲಪಡಿಸಲು ಸ್ಥಾಪಿಸಲಾಯಿತು, ಮತ್ತು ನಂತರ ಪೂರಕ ಆಹಾರಗಳನ್ನು ಕೊಡುವುದರ ಮೂಲಕ ಔಪಚಾರಿಕ ಶಾಲಾ ಪೂರ್ವ ಶಿಕ್ಷಣ ಮತ್ತು ದಿನ ಪೋಷಣೆ ನೀಡಲಾಯಿತು ಆದರೆ AWC ವ್ಯವಸ್ಥೆಯ ಕೊರತೆಗಳು ಮತ್ತು ಕಳಪೆ ಗುಣಮಟ್ಟದ ಸೇವೆಗಳು ಅಲ್ಲಿ ನೋಡಿರುವುದನ್ನು ಚೆನ್ನಾಗಿ ದಾಖಲಿಸಲಾಗಿದೆ. ಈಗ ಅತ್ಯಂತ ಕಡಿಮೆ ಸಂಪತ್ತಿರುವ ಕುಟುಂಬದ 51% ಮಕ್ಕಳ AWC ಗಳಿಗೆ ಹೋಗುತ್ತಾರೆ. ಆದರೆ ಉನ್ನತ ಮನೆತನದ 20% ಮಕ್ಕಳಲ್ಲಿ ಅರ್ಧಕ್ಕಿಂತ ಹೆಚ್ಚು ಘೋಷಣಾ ಸೌಲಭ್ಯ ಕೇಂದ್ರಗಳಿಗೆ ಹೋಗುತ್ತಾರೆ. ಈ ಕಳಪೆ ಮತ್ತು ಅಸಮ AWC ಸೌಲಭ್ಯಗಳನ್ನು ದೇಶದಲ್ಲಿ ಬಳಸುವುದು ಮಾನವ ಬಂಡವಾಳ ಸೂಚ್ಯಂಕ (2020 ರಲ್ಲಿ 174 ದೇಶಗಳಲ್ಲಿ 116 ನ ಹಾಗೆಯೇ ಜಾಗತಿಕ ಹಿಪಿವಿವಿ ಸೂಚ್ಯಂಕ 2020 ರಲ್ಲಿ 107 ದೇಶಗಳಲ್ಲಿ 94 ನೇ)ವು ಭಾರತ ಕಲಪೆ ಶ್ರೇಯಾಂಕವನ್ನು ಪ್ರತಿಬಿಂಬಿಸುತ್ತದೆ.

ಪ್ರಾರಂಭಿಕ ಶಿಶು ಬೆಳವಣಿಗೆಗೆ ಒಳಗೊಂಡಿರುವ ಎರಡು ಮುಖ್ಯ ಅಂಶಗಳೆಂದರೆ ಶಿಕ್ಷಣ ಮತ್ತು ಆರೋಗ್ಯ ಶಿಶುವಿನ ಪ್ರಾರಂಭಿಕ ವರ್ಷಗಳು (0 ರಿಂದ 8 ವರ್ಷದ ವರೆಗೆ) ಎಲ್ಲಾ ಕಲಿಕೆಗೆ ತಳಹದಿಯಾಗುತ್ತದೆ ಮತ್ತು ಆದ್ದರಿಂದ ಇದನ್ನು ಒಂದು ಶಿಶುವಿನ ಬೆಳವಣಿಗೆಯಲ್ಲಿ ಅತ್ಯಂತ ಸಾಮಾನ್ಯ ಅವಧಿ ಎನ್ನಲಾಗಿದೆ ಶಿಶು ಅವಸ್ಥೆಯಲ್ಲಿ ಹೆಚ್ಚಿನ ಜ್ಞಾನ ಸಾಮರ್ಥ್ಯ ಮತ್ತು ಸಾಕ್ಷರತೆ ಮತ್ತು ಗಣಿತಜ್ಞತೆಯ ಜೊತೆಗೆ ಬೆಳವಣಿಗೆ ದಾರಿಯಲ್ಲಿರುವುದು ಉನ್ನತ ಶಿಕ್ಷಣ ತಲುಪಲು ಮತ್ತು ಶಾಲೆಯಲ್ಲಿ ಉತ್ತಮ ಕಲಿಕೆಗೆ ಅವಕಾಶವನ್ನು ಮಾಡಿ ಪ್ರಧಾನ ಸಾಮಾಜಿಕ ಮತ್ತು ದೀರ್ಘಾವಧಿಯಲ್ಲಿ ಆರ್ಥಿಕ ಲಾಭಕ್ಕೆ ಎಡೆಮಾಡಿಕೊಡುತ್ತದೆಯೆಂದು ಸಂಶೋಧನೆಗಳು ತೋರಿಸಿವೆ ಹಾಗೆಯೇ ಮಕ್ಕಳಿಗೆ ಆರಂಭಿಕ ವರ್ಷಗಳಲ್ಲಿ ಪೋಷಣಾ ವಾತಾವರಣದ ಜೊತೆ ಸಾಕಷ್ಟು ಪೋಷಕಾಂಶಗಳು ಶುಚಿತ್ವ, ರಕ್ಷಣೆ ಮತ್ತು ಜವಾಬ್ದಾರಿಯುತ ಪ್ರಚೇದನೆ ನೀಡುವುದು ಹೆಚ್ಚಿನ ಆರೋಗ್ಯಯುತ ಶಿಶು ಅವಸ್ಥೆ ಬೆಳವಣಿಗೆ ಮತ್ತು ಧನಾತ್ಮಕ ಫಲಿತಾಂಶಕ್ಕೆ ದಾರಿ ಮಾಡುತ್ತದೆ.

ಯಾವ ವರ್ಷದಲ್ಲಿ ಅಂಗನವಾಡಿ ಕೇಂದ್ರಗಳನ್ನು ಸ್ಥಾಪಿಸಲಾಯಿತು?

1. 1975
2. 1980
3. 1982
4. 1984

Options :

485584146301. 1
485584146302. 2
485584146303. 3
485584146304. 4

Question Number : 192 Question Id : 48558436577 Question Type : MCQ Option Shuffling : No Is Question Mandatory : No Calculator : None Response Time : N.A Think Time : N.A Minimum Instruction Time : 0

Correct Marks : 5 Wrong Marks : 1

Question Key Details :

Key	Value
Comprehension	Comp1

Read the passage carefully. Attempt Question

Anganwadi Centers (AWCs) are the most common and publicly available facilities, initially constituted in 1975 to strengthen the public health system by providing immunization and health check-ups, and later to provide supplementary nutrition non-formal pre-school education and day-care.

The two key elements of early childhood development include education and health. A child's early years (0 to 8 years) form the foundation of all learning and are therefore the most extraordinary period of development in a child's life. Research has shown that greater cognitive abilities and being developmentally on track with literacy and numeracy in childhood provide for better learning in school and higher educational attainment, leading to major social and economic gains for society in the long run. Similarly, providing children with a nurturing environment in early years, with adequate nutrition, hygiene, protection and responsive stimulation, boosts healthy childhood development and delivers positive outcomes.

Identify the functions of the Anganvadi centres from the following:

- A. Providing immunisation
- B. Supplementary nutrition
- C. Non-formal pre-school education
- D. Supporting children in doing home-work after school

Choose the correct answer from the options given below:

- 1. B, C and D only
- 2. A, B and D only
- 3. A, B and C only
- 4. A, D and C only

Options :

- 485584146305. 1
- 485584146306. 2
- 485584146307. 3
- 485584146308. 4

Question Number : 192 Question Id : 48558436577 Question Type : MCQ Option Shuffling : No Is Question Mandatory : No Calculator : None Response Time : N.A Think Time : N.A Minimum Instruction Time : 0

Correct Marks : 5 Wrong Marks : 1

Question Key Details :

Key	Value
Comprehension	Comp1

ವಾಕ್ಯ ಪುಂಜವನ್ನು ಓದಿ ಮತ್ತು ಪ್ರಶ್ನೆಗೆ ಉತ್ತರಿಸಿ:

ಅಂಗನವಾಡಿ ಕೇಂದ್ರಗಳು (AWCS) ಅತ್ಯಂತ ಸಾಧಾರಣ ಮತ್ತು ಸಾರ್ವಜನಿಕವಾಗಿ ದೂರಕವ ಸೌಲಭ್ಯಗಳಾಗಿದ್ದು ಮೊದಲಿಗೆ 1975 ರಲ್ಲಿ ರೋಗ ನಿರೋಧನೆ ಮತ್ತು ಆರೋಗ್ಯ ತಪಾಸಣೆಗಳನ್ನು ನೀಡಿ, ಸಾರ್ವಜನಿಕ ಆರೋಗ್ಯ ವ್ಯವಸ್ಥೆಯನ್ನು ಬಲಪಡಿಸಲು ಸ್ಥಾಪಿಸಲಾಯಿತು, ಮತ್ತು ನಂತರ ಪೂರಕ ಆಹಾರಗಳನ್ನು ಕೊಡುವುದರ ಮೂಲಕ ಔಪಚಾರಿಕ ಶಾಲಾ ಪೂರ್ವ ಶಿಕ್ಷಣ ಮತ್ತು ದಿನ ಪೋಷಣೆ ನೀಡಲಾಯಿತು ಆದರೆ AWC ವ್ಯವಸ್ಥೆಯ ಕೊರತೆಗಳು ಮತ್ತು ಕಳಪೆ ಗುಣಮಟ್ಟದ ಸೇವೆಗಳು ಅಲ್ಲಿ ನೀಡಿರುವುದನ್ನು ಚೆನ್ನಾಗಿ ದಾಖಲಿಸಲಾಗಿದೆ. ಈಗ ಅತ್ಯಂತ ಕಡಿಮೆ ಸಂಪತ್ತಿರುವ ಕುಟುಂಬದ 51% ಮಕ್ಕಳ AWC ಗಳಿಗೆ ಹೋಗುತ್ತಾರೆ. ಆದರೆ ಉನ್ನತ ಮನೆತನದ 20% ಮಕ್ಕಳಲ್ಲಿ ಅರ್ಧಕ್ಕಿಂತ ಹೆಚ್ಚು ಫೋಷಣಾ ಸೌಲಭ್ಯ ಕೇಂದ್ರಗಳಿಗೆ ಹೋಗುತ್ತಾರೆ. ಈ ಕಳಪೆ ಮತ್ತು ಅಸಮ AWC ಸೌಲಭ್ಯಗಳನ್ನು ದೇಶದಲ್ಲಿ ಬಳಸುವುದು ಮಾನವ ಬಂಡವಾಳ ಸೂಚ್ಯಂಕ (2020 ರಲ್ಲಿ 174 ದೇಶಗಳಲ್ಲಿ 116 ನ ಹಾಗೆಯೇ ಜಾಗತಿಕ ಹಿಸಿವಿನಿ ಸೂಚ್ಯಂಕ 2020 ರಲ್ಲಿ 107 ದೇಶಗಳಲ್ಲಿ 94 ನೇ)ವು ಭಾರತ ಕಲಪೆ ಶ್ರೇಯಾಂಕವನ್ನು ಪ್ರತಿಬಿಂಬಿಸುತ್ತದೆ.

ಪ್ರಾರಂಭಿಕ ಶಿಶು ಬೆಳವಣಿಗೆಗೆ ಒಳಗೊಂಡಿರುವ ಎರಡು ಮುಖ್ಯ ಅಂಶಗಳೆಂದರೆ ಶಿಕ್ಷಣ ಮತ್ತು ಆರೋಗ್ಯ ಶಿಶುವಿನ ಪ್ರಾರಂಭಿಕ ವರ್ಷಗಳು (0 ರಿಂದ 8 ವರ್ಷದ ವರೆಗೆ) ಎಲ್ಲಾ ಕಲಿಕೆಗೆ ತಳಹದಿಯಾಗುತ್ತದೆ ಮತ್ತು ಆದ್ದರಿಂದ ಇದನ್ನು ಒಂದು ಶಿಶುವಿನ ಬೆಳವಣಿಗೆಯಲ್ಲಿ ಅತ್ಯಂತ ಸಾಮಾನ್ಯ ಅವಧಿ ಎನ್ನಲಾಗಿದೆ ಶಿಶು ಅವಸ್ಥೆಯಲ್ಲಿ ಹೆಚ್ಚಿನ ಜ್ಞಾನ ಸಾಮರ್ಥ್ಯ ಮತ್ತು ಸಾಕ್ಷರತೆ ಮತ್ತು ಗಣಿತಜ್ಞತೆಯ ಜೊತೆಗೆ ಬೆಳವಣಿಗೆ ದಾರಿಯಲ್ಲಿರುವುದು ಉನ್ನತ ಶಿಕ್ಷಣ ತಲುಪಲು ಮತ್ತು ಶಾಲೆಯಲ್ಲಿ ಉತ್ತಮ ಕಲಿಕೆಗೆ ಅವಕಾಶವನ್ನು ಮಾಡಿ ಪ್ರಧಾನ ಸಾಮಾಜಿಕ ಮತ್ತು ದೀರ್ಘಾವಧಿಯಲ್ಲಿ ಆರ್ಥಿಕ ಲಾಭಕ್ಕೆ ಎಡೆಮಾಡಿಕೊಡುತ್ತದೆಯೆಂದು ಸಂಶೋಧನೆಗಳು ತೋರಿಸಿವೆ ಹಾಗೆಯೇ ಮಕ್ಕಳಿಗೆ ಆರಂಭಿಕ ವರ್ಷಗಳಲ್ಲಿ ಪೋಷಣಾ ವಾತಾವರಣದ ಜೊತೆ ಸಾಕಷ್ಟು ಪೋಷಕಾಂಶಗಳು ಶುಚಿತ್ವ, ರಕ್ಷಣೆ ಮತ್ತು ಜವಾಬ್ದಾರಿಯುತ ಪ್ರಚೇದನೆ ನೀಡುವುದು ಹೆಚ್ಚಿನ ಆರೋಗ್ಯಯುತ ಶಿಶು ಅವಸ್ಥೆ ಬೆಳವಣಿಗೆ ಮತ್ತು ಧನಾತ್ಮಕ ಫಲಿತಾಂಶಕ್ಕೆ ದಾರಿ ಮಾಡುತ್ತದೆ.

ಅಂಗನವಾಡಿ ವ್ಯವಸ್ಥೆಗಳ ಕಾರ್ಯಗಳೆಂದರೆ:

- A. ರೋಗನಿರೋಧನೆ ಕಲ್ಪಿಸುವುದು
- B. ಪೂರಕ ಆಹಾರ
- C. ಅನೌಪಚಾರಿಕ ಪೂರ್ವ ಶಾಲೆ
- D. ಶಾಲೆಯಿಂದ ನಂತರ ಮಕ್ಕಳ ಗೃಹಕಾರ್ಯಕ್ಕೆ ಬೆಂಬಲಿಸುವುದು

ಈ ಕೆಳಗಿನ ಆಯ್ಕೆಗಳಿಂದ ಸರಿಯಾದ ಉತ್ತರವನ್ನು ಆರಿಸಿ:

- 1. B, C ಮತ್ತು D ಮಾತ್ರ
- 2. A, B ಮತ್ತು D ಮಾತ್ರ
- 3. A, B ಮತ್ತು C ಮಾತ್ರ
- 4. A, D ಮತ್ತು C ಮಾತ್ರ

Options :

- 485584146305. 1
- 485584146306. 2
- 485584146307. 3
- 485584146308. 4

Question Number : 193 Question Id : 48558436578 Question Type : MCQ Option Shuffling : No Is Question Mandatory : No Calculator : None Response Time : N.A Think Time : N.A Minimum Instruction Time : 0

Correct Marks : 5 Wrong Marks : 1

Question Key Details :

Key	Value
Comprehension	Comp1

Read the passage carefully. Attempt Question

Anganwadi Centers (AWCs) are the most common and publicly available facilities, initially constituted in 1975 to strengthen the public health system by providing immunization and health check-ups, and later to provide supplementary nutrition non-formal pre-school education and day-care.

The two key elements of early childhood development include education and health. A child's early years (0 to 8 years) form the foundation of all learning and are therefore the most extraordinary period of development in a child's life. Research has shown that greater cognitive abilities and being developmentally on track with literacy and numeracy in childhood provide for better learning in school and higher educational attainment, leading to major social and economic gains for society in the long run. Similarly, providing children with a nurturing environment in early years, with adequate nutrition, hygiene, protection and responsive stimulation, boosts healthy childhood development and delivers positive outcomes.

The two key elements of early childhood development are _____

1. Nutrition and immunisation
2. Health and education
3. School readiness and health
4. Day care and creche

Options :

- 485584146309. 1
- 485584146310. 2
- 485584146311. 3
- 485584146312. 4

Question Number : 193 Question Id : 48558436578 Question Type : MCQ Option Shuffling : No Is Question Mandatory : No Calculator : None Response Time : N.A Think Time : N.A Minimum Instruction Time : 0

Correct Marks : 5 Wrong Marks : 1

Question Key Details :

Key	Value
Comprehension	Comp1

ವಾಕ್ಯ ಪುಂಜವನ್ನು ಓದಿ ಮತ್ತು ಪ್ರಶ್ನೆಗೆ ಉತ್ತರಿಸಿ:

ಅಂಗನವಾಡಿ ಕೇಂದ್ರಗಳು (AWCS) ಅತ್ಯಂತ ಸಾಧಾರಣ ಮತ್ತು ಸಾರ್ವಜನಿಕವಾಗಿ ದೂರಕವ ಸೌಲಭ್ಯಗಳಾಗಿದ್ದು ಮೊದಲಿಗೆ 1975 ರಲ್ಲಿ ರೋಗ ನಿರೋಧಕ ಮತ್ತು ಆರೋಗ್ಯ ತಪಾಸಣೆಗಳನ್ನು ನೀಡಿ, ಸಾರ್ವಜನಿಕ ಆರೋಗ್ಯ ವ್ಯವಸ್ಥೆಯನ್ನು ಬಲಪಡಿಸಲು ಸ್ಥಾಪಿಸಲಾಯಿತು, ಮತ್ತು ನಂತರ ಪೂರಕ ಆಹಾರಗಳನ್ನು ಕೊಡುವುದರ ಮೂಲಕ ಔಪಚಾರಿಕ ಶಾಲಾ ಪೂರ್ವ ಶಿಕ್ಷಣ ಮತ್ತು ದಿನ ಪೋಷಣೆ ನೀಡಲಾಯಿತು ಆದರೆ AWC ವ್ಯವಸ್ಥೆಯ ಕೊರತೆಗಳು ಮತ್ತು ಕಳಪೆ ಗುಣಮಟ್ಟದ ಸೇವೆಗಳು ಅಲ್ಲಿ ನೀಡಿರುವುದನ್ನು ಚೆನ್ನಾಗಿ ದಾಖಲಿಸಲಾಗಿದೆ. ಈಗ ಅತ್ಯಂತ ಕಡಿಮೆ ಸಂಪತ್ತಿರುವ ಕುಟುಂಬದ 51% ಮಕ್ಕಳ AWC ಗಳಿಗೆ ಹೋಗುತ್ತಾರೆ. ಆದರೆ ಉನ್ನತ ಮನೆತನದ 20% ಮಕ್ಕಳಲ್ಲಿ ಅರ್ಧಕ್ಕಿಂತ ಹೆಚ್ಚು ಪೋಷಣಾ ಸೌಲಭ್ಯ ಕೇಂದ್ರಗಳಿಗೆ ಹೋಗುತ್ತಾರೆ. ಈ ಕಳಪೆ ಮತ್ತು ಅಸಮ AWC ಸೌಲಭ್ಯಗಳನ್ನು ದೇಶದಲ್ಲಿ ಬಳಸುವುದು ಮಾನವ ಬಂಡವಾಳ ಸೂಚ್ಯಂಕ (2020 ರಲ್ಲಿ 174 ದೇಶಗಳಲ್ಲಿ 116 ನ ಹಾಗೆಯೇ ಜಾಗತಿಕ ಹಿಸಿವಿನಿ ಸೂಚ್ಯಂಕ 2020 ರಲ್ಲಿ 107 ದೇಶಗಳಲ್ಲಿ 94 ನೇ)ವು ಭಾರತ ಕಲಪೆ ಶ್ರೇಯಾಂಕವನ್ನು ಪ್ರತಿಬಿಂಬಿಸುತ್ತದೆ.

ಪ್ರಾರಂಭಿಕ ಶಿಶು ಬೆಳವಣಿಗೆಗೆ ಒಳಗೊಂಡಿರುವ ಎರಡು ಮುಖ್ಯ ಅಂಶಗಳೆಂದರೆ ಶಿಕ್ಷಣ ಮತ್ತು ಆರೋಗ್ಯ ಶಿಶುವಿನ ಪ್ರಾರಂಭಿಕ ವರ್ಷಗಳು (0 ರಿಂದ 8 ವರ್ಷದ ವರೆಗೆ) ಎಲ್ಲಾ ಕಲಿಕೆಗೆ ತಳಹದಿಯಾಗುತ್ತದೆ ಮತ್ತು ಆದ್ದರಿಂದ ಇದನ್ನು ಒಂದು ಶಿಶುವಿನ ಬೆಳವಣಿಗೆಯಲ್ಲಿ ಅತ್ಯಂತ ಸಾಮಾನ್ಯ ಅವಧಿ ಎನ್ನಲಾಗಿದೆ ಶಿಶು ಅವಸ್ಥೆಯಲ್ಲಿ ಹೆಚ್ಚಿನ ಜ್ಞಾನ ಸಾಮರ್ಥ್ಯ ಮತ್ತು ಸಾಕ್ಷರತೆ ಮತ್ತು ಗಣಿತಜ್ಞತೆಯ ಜೊತೆಗೆ ಬೆಳವಣಿಗೆ ದಾರಿಯಲ್ಲಿರುವುದು ಉನ್ನತ ಶಿಕ್ಷಣ ತಲುಪಲು ಮತ್ತು ಶಾಲೆಯಲ್ಲಿ ಉತ್ತಮ ಕಲಿಕೆಗೆ ಅವಕಾಶವನ್ನು ಮಾಡಿ ಪ್ರಧಾನ ಸಾಮಾಜಿಕ ಮತ್ತು ದೀರ್ಘಾವಧಿಯಲ್ಲಿ ಆರ್ಥಿಕ ಲಾಭಕ್ಕೆ ಎಡೆಮಾಡಿಕೊಡುತ್ತದೆಯೆಂದು ಸಂಶೋಧನೆಗಳು ತೋರಿಸಿವೆ ಹಾಗೆಯೇ ಮಕ್ಕಳಿಗೆ ಆರಂಭಿಕ ವರ್ಷಗಳಲ್ಲಿ ಪೋಷಣಾ ವಾತಾವರಣದ ಜೊತೆ ಸಾಕಷ್ಟು ಪೋಷಕಾಂಶಗಳು ಶುಚಿತ್ವ, ರಕ್ಷಣೆ ಮತ್ತು ಜವಾಬ್ದಾರಿಯುತ ಪ್ರಚೇದನೆ ನೀಡುವುದು ಹೆಚ್ಚಿನ ಆರೋಗ್ಯಯುತ ಶಿಶು ಅವಸ್ಥೆ ಬೆಳವಣಿಗೆ ಮತ್ತು ಧನಾತ್ಮಕ ಫಲಿತಾಂಶಕ್ಕೆ ದಾರಿ ಮಾಡುತ್ತದೆ.

ಪ್ರಾರಂಭಿಕ ಶಿಶು ಅವಸ್ಥೆ ಬೆಳವಣಿಗೆಗೆ ಎರಡು ಪ್ರಮುಖ ಅಂಶಗಳೆಂದರೆ:

1. ಪೋಷಣೆ (ಆಹಾರ) ಮತ್ತು ರೋಗನಿರೋಧಕತೆ
2. ಆರೋಗ್ಯ ಮತ್ತು ಶಿಕ್ಷಣ
3. ಶಾಲಾ ಸಿದ್ಧತೆ ಮತ್ತು ಆರೋಗ್ಯ
4. ದಿನ ಪೋಷಣೆ ಮತ್ತು ಶಿಶುವಿಹಾರ

Options :

485584146309. 1
485584146310. 2
485584146311. 3
485584146312. 4

Question Number : 194 Question Id : 48558436579 Question Type : MCQ Option Shuffling : No Is Question Mandatory : No Calculator : None Response Time : N.A Think Time : N.A Minimum Instruction Time : 0

Correct Marks : 5 Wrong Marks : 1

Question Key Details :

Key	Value
Comprehension	Comp1

Read the passage carefully. Attempt Question

Anganwadi Centers (AWCs) are the most common and publicly available facilities, initially constituted in 1975 to strengthen the public health system by providing immunization and health check-ups, and later to provide supplementary nutrition non-formal pre-school education and day-care.

The two key elements of early childhood development include education and health. A child's early years (0 to 8 years) form the foundation of all learning and are therefore the most extraordinary period of development in a child's life. Research has shown that greater cognitive abilities and being developmentally on track with literacy and numeracy in childhood provide for better learning in school and higher educational attainment, leading to major social and economic gains for society in the long run. Similarly, providing children with a nurturing environment in early years, with adequate nutrition, hygiene, protection and responsive stimulation, boosts healthy childhood development and delivers positive outcomes.

The period of laying the foundation of all learning and rapid development during early childhood development is _____.

1. 3 to 6 years
2. 0 to 8 years
3. 1 to 2 years
4. 0 to 2 years

Options :

- 485584146313. 1
- 485584146314. 2
- 485584146315. 3
- 485584146316. 4

Question Number : 194 Question Id : 48558436579 Question Type : MCQ Option Shuffling : No Is Question Mandatory : No Calculator : None Response Time : N.A Think Time : N.A Minimum Instruction Time : 0

Correct Marks : 5 Wrong Marks : 1

Question Key Details :

Key	Value
Comprehension	Comp1

ವಾಕ್ಯ ಪುಂಜವನ್ನು ಓದಿ ಮತ್ತು ಪ್ರಶ್ನೆಗೆ ಉತ್ತರಿಸಿ:

ಅಂಗನವಾಡಿ ಕೇಂದ್ರಗಳು (AWCS) ಅತ್ಯಂತ ಸಾಧಾರಣ ಮತ್ತು ಸಾರ್ವಜನಿಕವಾಗಿ ದೂರಕುವ ಸೌಲಭ್ಯಗಳಾಗಿದ್ದು ಮೊದಲಿಗೆ 1973 ರಲ್ಲಿ ರೋಗ ನಿರೋಧನೆ ಮತ್ತು ಆರೋಗ್ಯ ತಪಾಸಣೆಗಳನ್ನು ನೀಡಿ, ಸಾರ್ವಜನಿಕ ಆರೋಗ್ಯ ವ್ಯವಸ್ಥೆಯನ್ನು ಬಲಪಡಿಸಲು ಸ್ಥಾಪಿಸಲಾಯಿತು, ಮತ್ತು ನಂತರ ಪೂರಕ ಆಹಾರಗಳನ್ನು ಕೊಡುವುದರ ಮೂಲಕ ಔಪಚಾರಿಕ ಶಾಲಾ ಪೂರ್ವ ಶಿಕ್ಷಣ ಮತ್ತು ದಿನ ಪೋಷಣೆ ನೀಡಲಾಯಿತು ಆದರೆ AWC ವ್ಯವಸ್ಥೆಯ ಕೊರತೆಗಳು ಮತ್ತು ಕಳಪೆ ಗುಣಮಟ್ಟದ ಸೇವೆಗಳು ಅಲ್ಲಿ ನೀಡಿರುವುದನ್ನು ಚೆನ್ನಾಗಿ ದಾಖಲಿಸಲಾಗಿದೆ. ಈಗ ಅತ್ಯಂತ ಕಡಿಮೆ ಸಂಪತ್ತಿರುವ ಕುಟುಂಬದ 51% ಮಕ್ಕಳ AWC ಗಳಿಗೆ ಹೋಗುತ್ತಾರೆ. ಆದರೆ ಉನ್ನತ ಮನೆತನದ 20% ಮಕ್ಕಳಲ್ಲಿ ಅರ್ಧಕ್ಕಿಂತ ಹೆಚ್ಚು ಪೋಷಣಾ ಸೌಲಭ್ಯ ಕೇಂದ್ರಗಳಿಗೆ ಹೋಗುತ್ತಾರೆ. ಈ ಕಳಪೆ ಮತ್ತು ಅಸಮ AWC ಸೌಲಭ್ಯಗಳನ್ನು ದೇಶದಲ್ಲಿ ಬಳಸುವುದು ಮಾನವ ಬಂಡವಾಳ ಸೂಚ್ಯಂಕ (2020 ರಲ್ಲಿ 174 ದೇಶಗಳಲ್ಲಿ 116 ನ ಹಾಗೆಯೇ ಜಾಗತಿಕ ಹಿಸಿವಿನಿ ಸೂಚ್ಯಂಕ 2020 ರಲ್ಲಿ 107 ದೇಶಗಳಲ್ಲಿ 94 ನೇ)ವು ಭಾರತ ಕಲಪೆ ಶ್ರೇಯಾಂಕವನ್ನು ಪ್ರತಿಬಿಂಬಿಸುತ್ತದೆ.

ಪ್ರಾರಂಭಿಕ ಶಿಶು ಬೆಳವಣಿಗೆಗೆ ಒಳಗೊಂಡಿರುವ ಎರಡು ಮುಖ್ಯ ಅಂಶಗಳೆಂದರೆ ಶಿಕ್ಷಣ ಮತ್ತು ಆರೋಗ್ಯ ಶಿಶುವಿನ ಪ್ರಾರಂಭಿಕ ವರ್ಷಗಳು (0 ರಿಂದ 8 ವರ್ಷದ ವರೆಗೆ) ಎಲ್ಲಾ ಕಲಿಕೆಗೆ ತಳಹದಿಯಾಗುತ್ತದೆ ಮತ್ತು ಆದ್ದರಿಂದ ಇದನ್ನು ಒಂದು ಶಿಶುವಿನ ಬೆಳವಣಿಗೆಯಲ್ಲಿ ಅತ್ಯಂತ ಸಾಮಾನ್ಯ ಅವಧಿ ಎನ್ನಲಾಗಿದೆ ಶಿಶು ಅವಸ್ಥೆಯಲ್ಲಿ ಹೆಚ್ಚಿನ ಜ್ಞಾನ ಸಾಮರ್ಥ್ಯ ಮತ್ತು ಸಾಕ್ಷರತೆ ಮತ್ತು ಗಣಿತಜ್ಞತೆಯ ಜೊತೆಗೆ ಬೆಳವಣಿಗೆ ದಾರಿಯಲ್ಲಿರುವುದು ಉನ್ನತ ಶಿಕ್ಷಣ ತಲುಪಲು ಮತ್ತು ಶಾಲೆಯಲ್ಲಿ ಉತ್ತಮ ಕಲಿಕೆಗೆ ಅವಕಾಶವನ್ನು ಮಾಡಿ ಪ್ರಧಾನ ಸಾಮಾಜಿಕ ಮತ್ತು ದೀರ್ಘಾವಧಿಯಲ್ಲಿ ಆರ್ಥಿಕ ಲಾಭಕ್ಕೆ ಎಡೆಮಾಡಿಕೊಡುತ್ತದೆಯೆಂದು ಸಂಶೋಧನೆಗಳು ತೋರಿಸಿವೆ ಹಾಗೆಯೇ ಮಕ್ಕಳಿಗೆ ಆರಂಭಿಕ ವರ್ಷಗಳಲ್ಲಿ ಪೋಷಣಾ ವಾತಾವರಣದ ಜೊತೆ ಸಾಕಷ್ಟು ಪೋಷಕಾಂಶಗಳು ಶುಚಿತ್ವ, ರಕ್ಷಣೆ ಮತ್ತು ಜವಾಬ್ದಾರಿಯುತ ಪ್ರಚೇದನೆ ನೀಡುವುದು ಹೆಚ್ಚಿನ ಆರೋಗ್ಯಯುತ ಶಿಶು ಅವಸ್ಥೆ ಬೆಳವಣಿಗೆ ಮತ್ತು ಧನಾತ್ಮಕ ಫಲಿತಾಂಶಕ್ಕೆ ದಾರಿ ಮಾಡುತ್ತದೆ.

ಪ್ರಾರಂಭಿಕ ಶಿಶು ಅವಸ್ಥೆ ಬೆಳವಣಿಗೆ ಸಮಯದಲ್ಲಿ ತೀವ್ರ ಬೆಳವಣಿಗೆಯಾಗುವುದು _____ ಅವಧಿಯಲ್ಲಿ.

1. 3ರಿಂದ 6 ವರ್ಷಗಳ ವರೆಗೆ
2. 0ರಿಂದ 8 ವರ್ಷಗಳ ವರೆಗೆ
3. 1ರಿಂದ 2 ವರ್ಷಗಳ ವರೆಗೆ
4. 0ರಿಂದ 2 ವರ್ಷಗಳ ವರೆಗೆ

Options :

485584146313. 1
485584146314. 2
485584146315. 3
485584146316. 4

Question Number : 195 Question Id : 48558436580 Question Type : MCQ Option Shuffling : No Is Question Mandatory : No Calculator : None Response Time : N.A Think Time : N.A Minimum Instruction Time : 0

Correct Marks : 5 Wrong Marks : 1

Question Key Details :

Key	Value
Comprehension	Comp1

Read the passage carefully. Attempt Question

Anganwadi Centers (AWCs) are the most common and publicly available facilities, initially constituted in 1975 to strengthen the public health system by providing immunization and health check-ups, and later to provide supplementary nutrition non-formal pre-school education and day-care.

The two key elements of early childhood development include education and health. A child's early years (0 to 8 years) form the foundation of all learning and are therefore the most extraordinary period of development in a child's life. Research has shown that greater cognitive abilities and being developmentally on track with literacy and numeracy in childhood provide for better learning in school and higher educational attainment, leading to major social and economic gains for society in the long run. Similarly, providing children with a nurturing environment in early years, with adequate nutrition, hygiene, protection and responsive stimulation, boosts healthy childhood development and delivers positive outcomes.

To boost healthy childhood and getting positive outcomes in ECCE, which of the following needs to be provided?

- A. Adequate nutrition
- B. Responsive stimulation
- C. Hygiene
- D. Toys and games
- E. Immunisation

Choose the correct answer from the options given below:

- 1. A, B and C only
- 2. A, B and D only
- 3. B, C and D only
- 4. C, D and E only

Options :

- 485584146317. 1
- 485584146318. 2
- 485584146319. 3
- 485584146320. 4

Question Number : 195 Question Id : 48558436580 Question Type : MCQ Option Shuffling : No Is Question Mandatory : No Calculator : None Response Time : N.A Think Time : N.A Minimum Instruction Time : 0

Correct Marks : 5 Wrong Marks : 1

Question Key Details :

Key	Value
Comprehension	Comp1

ವಾಕ್ಯ ಪುಂಜವನ್ನು ಓದಿ ಮತ್ತು ಪ್ರಶ್ನೆಗೆ ಉತ್ತರಿಸಿ:

ಅಂಗನವಾಡಿ ಕೇಂದ್ರಗಳು (AWCS) ಅತ್ಯಂತ ಸಾಧಾರಣ ಮತ್ತು ಸಾರ್ವಜನಿಕವಾಗಿ ದೂರಕವ ಸೌಲಭ್ಯಗಳಾಗಿದ್ದು ಮೊದಲಿಗೆ 1975 ರಲ್ಲಿ ರೋಗ ನಿರೋಧಕ ಮತ್ತು ಆರೋಗ್ಯ ತಪಾಸಣೆಗಳನ್ನು ನೀಡಿ, ಸಾರ್ವಜನಿಕ ಆರೋಗ್ಯ ವ್ಯವಸ್ಥೆಯನ್ನು ಬಲಪಡಿಸಲು ಸ್ಥಾಪಿಸಲಾಯಿತು, ಮತ್ತು ನಂತರ ಪೂರಕ ಆಹಾರಗಳನ್ನು ಕೊಡುವುದರ ಮೂಲಕ ಔಪಚಾರಿಕ ಶಾಲಾ ಪೂರ್ವ ಶಿಕ್ಷಣ ಮತ್ತು ದಿನ ಪೋಷಣೆ ನೀಡಲಾಯಿತು ಆದರೆ AWC ವ್ಯವಸ್ಥೆಯ ಕೊರತೆಗಳು ಮತ್ತು ಕಳಪೆ ಗುಣಮಟ್ಟದ ಸೇವೆಗಳು ಅಲ್ಲಿ ನೀಡಿರುವುದನ್ನು ಚೆನ್ನಾಗಿ ದಾಖಲಿಸಲಾಗಿದೆ. ಈಗ ಅತ್ಯಂತ ಕಡಿಮೆ ಸಂಪತ್ತಿರುವ ಕುಟುಂಬದ 51% ಮಕ್ಕಳ AWC ಗಳಿಗೆ ಹೋಗುತ್ತಾರೆ. ಆದರೆ ಉನ್ನತ ಮನೆತನದ 20% ಮಕ್ಕಳಲ್ಲಿ ಅರ್ಧಕ್ಕಿಂತ ಹೆಚ್ಚು ಫೋಷಣಾ ಸೌಲಭ್ಯ ಕೇಂದ್ರಗಳಿಗೆ ಹೋಗುತ್ತಾರೆ. ಈ ಕಳಪೆ ಮತ್ತು ಅಸಮ AWC ಸೌಲಭ್ಯಗಳನ್ನು ದೇಶದಲ್ಲಿ ಬಳಸುವುದು ಮಾನವ ಬಂಡವಾಳ ಸೂಚ್ಯಂಕ (2020 ರಲ್ಲಿ 174 ದೇಶಗಳಲ್ಲಿ 116 ನ ಹಾಗೆಯೇ ಜಾಗತಿಕ ಹಿಸಿವಿನಿ ಸೂಚ್ಯಂಕ 2020 ರಲ್ಲಿ 107 ದೇಶಗಳಲ್ಲಿ 94 ನೇ)ವು ಭಾರತ ಕಲಪೆ ಶ್ರೇಯಾಂಕವನ್ನು ಪ್ರತಿಬಿಂಬಿಸುತ್ತದೆ.

ಪ್ರಾರಂಭಿಕ ಶಿಶು ಬೆಳವಣಿಗೆಗೆ ಒಳಗೊಂಡಿರುವ ಎರಡು ಮುಖ್ಯ ಅಂಶಗಳೆಂದರೆ ಶಿಕ್ಷಣ ಮತ್ತು ಆರೋಗ್ಯ ಶಿಶುವಿನ ಪ್ರಾರಂಭಿಕ ವರ್ಷಗಳು (0 ರಿಂದ 8 ವರ್ಷದ ವರೆಗೆ) ಎಲ್ಲಾ ಕಲಿಕೆಗೆ ತಳಹದಿಯಾಗುತ್ತದೆ ಮತ್ತು ಆದ್ದರಿಂದ ಇದನ್ನು ಒಂದು ಶಿಶುವಿನ ಬೆಳವಣಿಗೆಯಲ್ಲಿ ಅತ್ಯಂತ ಸಾಮಾನ್ಯ ಅವಧಿ ಎನ್ನಲಾಗಿದೆ ಶಿಶು ಅವಸ್ಥೆಯಲ್ಲಿ ಹೆಚ್ಚಿನ ಜ್ಞಾನ ಸಾಮರ್ಥ್ಯ ಮತ್ತು ಸಾಕ್ಷರತೆ ಮತ್ತು ಗಣಿತಜ್ಞತೆಯ ಜೊತೆಗೆ ಬೆಳವಣಿಗೆ ದಾರಿಯಲ್ಲಿರುವುದು ಉನ್ನತ ಶಿಕ್ಷಣ ತಲುಪಲು ಮತ್ತು ಶಾಲೆಯಲ್ಲಿ ಉತ್ತಮ ಕಲಿಕೆಗೆ ಅವಕಾಶವನ್ನು ಮಾಡಿ ಪ್ರಧಾನ ಸಾಮಾಜಿಕ ಮತ್ತು ದೀರ್ಘಾವಧಿಯಲ್ಲಿ ಆರ್ಥಿಕ ಲಾಭಕ್ಕೆ ಎಡೆಮಾಡಿಕೊಡುತ್ತದೆಯೆಂದು ಸಂಶೋಧನೆಗಳು ತೋರಿಸಿವೆ ಹಾಗೆಯೇ ಮಕ್ಕಳಿಗೆ ಆರಂಭಿಕ ವರ್ಷಗಳಲ್ಲಿ ಪೋಷಣಾ ವಾತಾವರಣದ ಜೊತೆ ಸಾಕಷ್ಟು ಪೋಷಕಾಂಶಗಳು ಶುಚಿತ್ವ, ರಕ್ಷಣೆ ಮತ್ತು ಜವಾಬ್ದಾರಿಯುತ ಪ್ರಚೇದನೆ ನೀಡುವುದು ಹೆಚ್ಚಿನ ಆರೋಗ್ಯಯುತ ಶಿಶು ಅವಸ್ಥೆ ಬೆಳವಣಿಗೆ ಮತ್ತು ಧನಾತ್ಮಕ ಫಲಿತಾಂಶಕ್ಕೆ ದಾರಿ ಮಾಡುತ್ತದೆ.

ECCE ನಲ್ಲಿ ಧನಾತ್ಮಕ ಫಲಿತಾಂಶ ಪಡೆಯಲು, ಕೆಳಗಿನವುಗಳನ್ನು ನೋಡಿಕೊಳ್ಳಬೇಕು:

- A. ಸಾಕಷ್ಟು ಪೋಷಣೆ ನೀಡಬೇಕು
- B. ಜವಾಬ್ದಾರಿಯುತ ಪ್ರಚೇದನೆ
- C. ಶುಚಿತ್ವ
- D. ಆಟಗಳನ್ನು ಮತ್ತು ಆಟಗಳನ್ನು ನೀಡಬೇಕು
- E. ರೋಗ ನಿರೋಧಕತೆ ನೀಡುವುದು

ಈ ಕೆಳಗಿನ ಆಯ್ಕೆಗಳಿಂದ ಸರಿಯಾದ ಉತ್ತರವನ್ನು ಆರಿಸಿ:

1. A, B ಮತ್ತು C ಮಾತ್ರ
2. A, B ಮತ್ತು D ಮಾತ್ರ
3. B, C ಮತ್ತು D ಮಾತ್ರ
4. C, D ಮತ್ತು E ಮಾತ್ರ

Options :

- 485584146317. 1
- 485584146318. 2
- 485584146319. 3
- 485584146320. 4

Sub-Section Number :

3

Sub-Section Id :

4855842701

Question Shuffling Allowed :

No

Is Section Default? :

null

Question Number : 196 Question Id : 48558436581 Question Type : MCQ Option Shuffling : No Is Question Mandatory : No Calculator : None Response Time : N.A Think Time : N.A Minimum Instruction Time : 0

Correct Marks : 5 Wrong Marks : 1

Question Key Details :

Key	Value
Comprehension	Comp2

Read the passage carefully. Attempt Question

Consumers not only purchase products but a whole gamut of services like those of banks, other financial institutions, airlines and travel agencies; hospitals and other medical practitioners; public utilities like garbage collection, cleanliness and maintenance of roads, parks, etc; electricity water telephone, post and telegraph; educational institutions and so on.

Consumers face a number of problems with regard to these services like excessive billing, being charged but not delivering the service, gap between promised level of service and service that is delivered, overstating the service attributes and enticing the consumer, making false claims and so on.

Gap between service delivery and external communication is a consumer issue. Consumer expectations are affected by promises made by the service provider in his external communication which may be through brochures, advertisements, personal selling etc. E. g. If a resort hotel brochure shows a beautiful room but the guests arrive and find the room to be cheap and very ordinary. Many a times people make advance bookings based on the brochures or seeing the website or some other advertisements. In such bookings sometimes advance also has to be paid. If the customer does not like the room ambience he may be left with little choice since refunds are not given by many hotels.

Many private educational institutions assure jobs to students after completion of course which eventually does not happen. Which service-related consumer problem is depicted in this example ?

1. Excessive billings
2. Being charged but not delivering the service
3. Making false claims
4. Overstating the service attributes

Options :

485584146321. 1

485584146322. 2

485584146323. 3

485584146324. 4

Question Number : 196 Question Id : 48558436581 Question Type : MCQ Option Shuffling : No Is Question Mandatory : No Calculator : None Response Time : N.A Think Time : N.A Minimum Instruction Time : 0

Correct Marks : 5 Wrong Marks : 1

Question Key Details :

Key	Value
Comprehension	Comp2

ವಾಕ್ಯಪುಂಜವನ್ನು ಗಮನವಿಟ್ಟು ಓದಿ ಪ್ರಶ್ನೆಗಳನ್ನು ಪುಯ್ಯಿಸಿ.

ಗ್ರಾಹಕ ಉತ್ಪನ್ನವನ್ನು ಮಾತ್ರ ಖರೀದಿಸಿದ್ದಲ್ಲದೆ ಎಲ್ಲಾ ಸೇವೆಗಳಿಂದ, ಬ್ಯಾಂಕ್, ಇತರೆ ಆರ್ಥಿಕ ಸಂಸ್ಥೆಗಳು, ವಿಮಾನಯಾನ ಸಂಸ್ಥೆಗಳು ಮತ್ತು ಪ್ರವಾಸಿ ಖಜೀನಿಗಳು, ಆಸ್ಪತ್ರೆಗಳು ಮತ್ತು ವೈದ್ಯಾಧಿಕಾರಿಗಳು, ಸಾರ್ವಜನಿಕ ಸೌಲಭ್ಯಗಳಾದ ಕಸ ಸಂಗ್ರಹಣೆ, ಶುಚಿತ್ವ ಮತ್ತು ರಸ್ತೆಗಳು ಮತ್ತು ಉದ್ಯಾನಗಳ ನಿರ್ವಹಣೆ, ಇತರೆ, ವಿದ್ಯುತ್, ನೀರು, ಟೆಲಿಫೋನ್, ಅಂಚೆ ಮತ್ತು ತಂತ್ರೀಕೃತ ಸಂಸ್ಥೆಗಳು ಮತ್ತಿತರಗಳನ್ನು ಖರೀದಿಸಿದನು. ಈ ಸೇವೆಗಳಿಗೆ ಸಂಬಂಧಿಸಿದಂತೆ ಹೆಚ್ಚಿನ ಬಿಲ್ ಮಾಡುವುದು, ಶುಲ್ಕ ನೀಡಿರುತ್ತಾರೆ. ಆದರೆ ಸೇವೆ ನೀಡಿರುವುದಿಲ್ಲ. ಭರವಸೆ ನೀಡದಿರುವುದು ಮತ್ತು ಸೇವೆ ಒದಗಿಸಿರುವ ನಡುವಿನ ಅಂತರ, ಸೇವಾ ಗುಣಲಕ್ಷಣಗಳನ್ನು ಅತಿಯಾಗಿ ಹೇಳುವುದು ಮತ್ತು ಗ್ರಾಹಕರನ್ನು ಪುಸಲಾಯಿಸುವುದು, ಸುಳ್ಳು ಹೇಳುವುದು, ಮತ್ತು ಇನ್ನಿತರ ಸಮಸ್ಯೆಗಳನ್ನು ಗ್ರಾಹಕರು ಎದುರಿಸಿದರು.

ಸೇವೆ ಒದಗಿಸಿರುವುದು ಮತ್ತು ಬಾಹ್ಯ ಸಂವಹನದ ನಡುವಿನ ಅಂತರ ಒಂದು ಗ್ರಾಹಕ ಸಮಸ್ಯೆ, ಸೇವೆ ನೀಡುವವರು ತಮ್ಮ ಬಾಹ್ಯ ಸಂವಹನಗಳಾದ ಕೈಪಿಡಿ ಪುಸ್ತಕಗಳು, ಜಾಹೀರಾತುಗಳು, ವೈಯಕ್ತಿಕ ಮಾರುವಿಕೆ, ಇತರೆ ಭರವಸೆಗಳ ಮೂಲಕ ಗ್ರಾಹಕನ ನಿರೀಕ್ಷೆಯ ಮೇಲೆ ಪರಿಣಾಮವಾಗಬಹುದು. ಒಂದು ರಿಸಾರ್ಟ್ ಹೋಟೆಲ್‌ನ ಕೈಪಿಡಿ ಪುಸ್ತಕದಲ್ಲಿ ಸುಂದರವಾದ ಕೋಣೆಯನ್ನು ತೋರಿಸುತ್ತಾರೆ. ಆದರೆ ಅತಿಥಿ ಬಂದು ನೋಡಿದಾಗ ಕೋಣೆ ಕಳಪೆಯಾಗಿದ್ದು, ಮತ್ತು ಸಾಮಾನ್ಯವಾಗಿರುತ್ತದೆ. ಹಲವು ಬಾರಿ ಕೈಪಿಡಿ ಪುಸ್ತಕ ಅಥವಾ ಜಾಲತಾಣಗಳನ್ನು ಅಥವಾ ಜಾಹೀರಾತುಗಳನ್ನು ನೋಡಿ ಜನರು ಮುಂಗಡ ಬುಕಿಂಗ್ ಮಾಡುತ್ತಾರೆ. ಈ ಬುಕಿಂಗ್‌ಗಳಲ್ಲಿ ಹಣವನ್ನು ಸಹ ನೀಡಿರುತ್ತಾರೆ. ಗ್ರಾಹಕನಿಗೆ ಕೋಣೆ ವಾತಾವರಣ ಇಷ್ಟವಾಗದಿದ್ದರೆ, ಅವನಿಗೆ ಯಾವುದೇ ಅವಕಾಶಗಳಿರುವುದಿಲ್ಲ. ಏಕೆಂದರೆ ಹಲವು ಹೋಟೆಲ್‌ಗಳು ಹಣ ಹಿಂತಿರುಗಿಸುವುದಿಲ್ಲ.

ಹಲವು ಖಾಸಗಿ ವಿದ್ಯಾ ಸಂಸ್ಥೆಗಳು ಕೋರ್ಸ್ ಪೂರೈಸಿದ ನಂತರ ಕೆಲಸ ಭರವಸೆಯನ್ನು ವಿದ್ಯಾರ್ಥಿಗಳಿಗೆ ನೀಡುತ್ತದೆ. ಅದು ಕೊನೆಗೆ ಆಗುವುದಿಲ್ಲ. ಈ ಉದಾಹರಣೆಯಲ್ಲಿ, ಯಾವ ಸೇವಾ ಸಂಬಂಧಿತ ಯಾವ ಸೇವಾ ಸಂಬಂಧಿತ ಗ್ರಾಹಕ ಸಮಸ್ಯೆಯನ್ನು ತೋರಿಸಲಾಗಿದೆ?

1. ಹೆಚ್ಚಿನ ಬಿಲ್ ಮಾಡುವುದು
2. ಶುಲ್ಕ ನೀಡಿರುತ್ತಾರೆ ಆದರೆ ಸೇವೆ ನೀಡುವುದಿಲ್ಲ
3. ಸುಳ್ಳು ಹೇಳುವುದು
4. ಸೇವಾ ಲಕ್ಷಣಗಳನ್ನು ಅತಿಯಾಗಿ ಹೇಳುವುದು

Options :

485584146321. 1
485584146322. 2
485584146323. 3
485584146324. 4

Question Number : 197 Question Id : 48558436582 Question Type : MCQ Option Shuffling : No Is Question Mandatory : No Calculator : None Response Time : N.A Think Time : N.A Minimum Instruction Time : 0

Correct Marks : 5 Wrong Marks : 1

Question Key Details :

Key	Value
Comprehension	Comp2

Read the passage carefully. Attempt Question

Consumers not only purchase products but a whole gamut of services like those of banks, other financial institutions, airlines and travel agencies; hospitals and other medical practitioners; public utilities like garbage collection, cleanliness and maintenance of roads, parks, etc; electricity water telephone, post and telegraph; educational institutions and so on.

Consumers face a number of problems with regard to these services like excessive billing, being charged but not delivering the service, gap between promised level of service and service that is delivered, overstating the service attributes and enticing the consumer, making false claims and so on.

Gap between service delivery and external communication is a consumer issue. Consumer expectations are affected by promises made by the service provider in his external communication which may be through brochures, advertisements, personal selling etc. E. g. If a resort hotel brochure shows a beautiful room but the guests arrive and find the room to be cheap and very ordinary. Many a times people make advance bookings based on the brochures or seeing the website or some other advertisements. In such bookings sometimes advance also has to be paid. If the customer does not like the room ambience he may be left with little choice since refunds are not given by many hotels.

Which of the following is NOT an example of services offered to consumers ?

1. Consumer durables
2. Banking services
3. Airlines
4. Educational institutions

Options :

- 485584146325. 1
- 485584146326. 2
- 485584146327. 3
- 485584146328. 4

Question Number : 197 Question Id : 48558436582 Question Type : MCQ Option Shuffling : No Is Question Mandatory : No Calculator : None Response Time : N.A Think Time : N.A Minimum Instruction Time : 0

Correct Marks : 5 Wrong Marks : 1

Question Key Details :

Key	Value
Comprehension	Comp2

ವಾಕ್ಯಪುಂಜವನ್ನು ಗಮನವಿಟ್ಟು ಓದಿ ಪ್ರಶ್ನೆಗಳನ್ನು ಪುಯಿತ್ತಿಸಿ.

ಗ್ರಾಹಕ ಉತ್ಪನ್ನವನ್ನು ಮಾತ್ರ ಖರೀದಿಸಿದ್ದಲ್ಲದೆ ಎಲ್ಲಾ ಸೇವೆಗಳಿಂದ, ಬ್ಯಾಂಕ್, ಇತರೆ ಆರ್ಥಿಕ ಸಂಸ್ಥೆಗಳು, ವಿಮಾನಯಾನ ಸಂಸ್ಥೆಗಳು ಮತ್ತು ಪ್ರವಾಸಿ ಖಜಾನೆಗಳು, ಆಸ್ಪತ್ರೆಗಳು ಮತ್ತು ವೈದ್ಯಾಧಿಕಾರಿಗಳು, ಸಾರ್ವಜನಿಕ ಸೌಲಭ್ಯಗಳಾದ ಕಸ ಸಂಗ್ರಹಣೆ, ಶುಚಿತ್ವ ಮತ್ತು ರಸ್ತೆಗಳು ಮತ್ತು ಉದ್ಯಾನಗಳ ನಿರ್ವಹಣೆ, ಇತರೆ, ವಿದ್ಯುತ್, ನೀರು, ಟೆಲಿಫೋನ್, ಅಂಚೆ ಮತ್ತು ತಂತ್ರೀಕೃತ ಸಂಸ್ಥೆಗಳು ಮತ್ತಿತರಗಳನ್ನು ಖರೀದಿಸಿದನು. ಈ ಸೇವೆಗಳಿಗೆ ಸಂಬಂಧಿಸಿದಂತೆ ಹೆಚ್ಚಿನ ಬಿಲ್ ಮಾಡುವುದು, ಶುಲ್ಕ ನೀಡಿರುತ್ತಾರೆ. ಆದರೆ ಸೇವೆ ನೀಡಿರುವುದಿಲ್ಲ. ಭರವಸೆ ನೀಡದಿರುವುದು ಮತ್ತು ಸೇವೆ ಒದಗಿಸಿರುವ ನಡುವಿನ ಅಂತರ, ಸೇವಾ ಗುಣಲಕ್ಷಣಗಳನ್ನು ಅತಿಯಾಗಿ ಹೇಳುವುದು ಮತ್ತು ಗ್ರಾಹಕರನ್ನು ಪುಸಲಾಯಿಸುವುದು, ಸುಳ್ಳು ಹೇಳುವುದು, ಮತ್ತು ಇನ್ನಿತರ ಸಮಸ್ಯೆಗಳನ್ನು ಗ್ರಾಹಕರು ಎದುರಿಸಿದರು.

ಸೇವೆ ಒದಗಿಸಿರುವುದು ಮತ್ತು ಬಾಹ್ಯ ಸಂವಹನದ ನಡುವಿನ ಅಂತರ ಒಂದು ಗ್ರಾಹಕ ಸಮಸ್ಯೆ, ಸೇವೆ ನೀಡುವವರು ತಮ್ಮ ಬಾಹ್ಯ ಸಂವಹನಗಳಾದ ಕೈಪಿಡಿ ಪುಸ್ತಕಗಳು, ಜಾಹೀರಾತುಗಳು, ವೈಯಕ್ತಿಕ ಮಾರುವಿಕೆ, ಇತರೆ ಭರವಸೆಗಳ ಮೂಲಕ ಗ್ರಾಹಕನ ನಿರೀಕ್ಷೆಯ ಮೇಲೆ ಪರಿಣಾಮವಾಗಬಹುದು. ಒಂದು ರೆಸಾರ್ಟ್ ಹೋಟೆಲ್‌ನ ಕೈಪಿಡಿ ಪುಸ್ತಕದಲ್ಲಿ ಸುಂದರವಾದ ಕೋಣೆಯನ್ನು ತೋರಿಸುತ್ತಾರೆ. ಆದರೆ ಅತಿಥಿ ಬಂದು ನೋಡಿದಾಗ ಕೋಣೆ ಕಳಪೆಯಾಗಿದ್ದು, ಮತ್ತು ಸಾಮಾನ್ಯವಾಗಿರುತ್ತದೆ. ಹಲವು ಬಾರಿ ಕೈಪಿಡಿ ಪುಸ್ತಕ ಅಥವಾ ಜಾಲತಾಣಗಳನ್ನು ಅಥವಾ ಜಾಹೀರಾತುಗಳನ್ನು ನೋಡಿ ಜನರು ಮುಂಗಡ ಬುಕಿಂಗ್ ಮಾಡುತ್ತಾರೆ. ಈ ಬುಕಿಂಗ್‌ಗಳಲ್ಲಿ ಹಣವನ್ನು ಸಹ ನೀಡಿರುತ್ತಾರೆ. ಗ್ರಾಹಕನಿಗೆ ಕೋಣೆ ವಾತಾವರಣ ಇಷ್ಟವಾಗದಿದ್ದರೆ, ಅವನಿಗೆ ಯಾವುದೇ ಅವಕಾಶಗಳಿರುವುದಿಲ್ಲ. ಏಕೆಂದರೆ ಹಲವು ಹೋಟೆಲ್‌ಗಳು ಹಣ ಹಿಂತಿರುಗಿಸುವುದಿಲ್ಲ.

Which of the following is NOT an example of services offered to consumers ?

1. Consumer durables
2. Banking services
3. Airlines
4. Educational institutions

Options :

485584146325. 1
485584146326. 2
485584146327. 3
485584146328. 4

Question Number : 198 Question Id : 48558436583 Question Type : MCQ Option Shuffling : No Is Question Mandatory : No Calculator : None Response Time : N.A Think Time : N.A Minimum Instruction Time : 0

Correct Marks : 5 Wrong Marks : 1

Question Key Details :

Key	Value
Comprehension	Comp2

Read the passage carefully. Attempt Question

Consumers not only purchase products but a whole gamut of services like those of banks, other financial institutions, airlines and travel agencies; hospitals and other medical practitioners; public utilities like garbage collection, cleanliness and maintenance of roads, parks, etc; electricity water telephone, post and telegraph; educational institutions and so on.

Consumers face a number of problems with regard to these services like excessive billing, being charged but not delivering the service, gap between promised level of service and service that is delivered, overstating the service attributes and enticing the consumer, making false claims and so on.

Gap between service delivery and external communication is a consumer issue. Consumer expectations are affected by promises made by the service provider in his external communication which may be through brochures, advertisements, personal selling etc. E. g. If a resort hotel brochure shows a beautiful room but the guests arrive and find the room to be cheap and very ordinary. Many a times people make advance bookings based on the brochures or seeing the website or some other advertisements. In such bookings sometimes advance also has to be paid. If the customer does not like the room ambience he may be left with little choice since refunds are not given by many hotels.

Many a times, we are required to pay a basic telephone rental charge irrespective of it being out of order. Which service related to consumer problem is depicted in this example?

1. Excessive billing
2. Being charged but not delivering the service
3. Making false claims
4. Overstating the service attributes

Options :

- 485584146329. 1
- 485584146330. 2
- 485584146331. 3
- 485584146332. 4

Question Number : 198 Question Id : 48558436583 Question Type : MCQ Option Shuffling : No Is Question Mandatory : No Calculator : None Response Time : N.A Think Time : N.A Minimum Instruction Time : 0

Correct Marks : 5 Wrong Marks : 1

Question Key Details :

Key	Value
Comprehension	Comp2

ವಾಕ್ಯಪುಂಜವನ್ನು ಗಮನವಿಟ್ಟು ಓದಿ ಪ್ರಶ್ನೆಗಳನ್ನು ಪುಯತ್ನಿಸಿ.

ಗ್ರಾಹಕ ಉತ್ಪನ್ನವನ್ನು ಮಾತ್ರ ಖರೀದಿಸಿದ್ದಲ್ಲದೆ ಎಲ್ಲಾ ಸೇವೆಗಳಿಂದ, ಬ್ಯಾಂಕ್, ಇತರೆ ಆರ್ಥಿಕ ಸಂಸ್ಥೆಗಳು, ವಿಮಾನಯಾನ ಸಂಸ್ಥೆಗಳು ಮತ್ತು ಪ್ರವಾಸಿ ಖಜೀನಿಗಳು, ಆಸ್ಪತ್ರೆಗಳು ಮತ್ತು ವೈದ್ಯಾಧಿಕಾರಿಗಳು, ಸಾರ್ವಜನಿಕ ಸೌಲಭ್ಯಗಳಾದ ಕಸ ಸಂಗ್ರಹಣೆ, ಶುಚಿತ್ವ ಮತ್ತು ರಸ್ತೆಗಳು ಮತ್ತು ಉದ್ಯಾನಗಳ ನಿರ್ವಹಣೆ, ಇತರೆ, ವಿದ್ಯುತ್, ನೀರು, ಟೆಲಿಫೋನ್, ಅಂಚೆ ಮತ್ತು ತಂತ್ರೀಕೃತ ಶೈಕ್ಷಣಿಕ ಸಂಸ್ಥೆಗಳು ಮತ್ತಿತರಗಳನ್ನು ಖರೀದಿಸಿದನು. ಈ ಸೇವೆಗಳಿಗೆ ಸಂಬಂಧಿಸಿದಂತೆ ಹೆಚ್ಚಿನ ಬಿಲ್ ಮಾಡುವುದು, ಶುಲ್ಕ ನೀಡಿರುತ್ತಾರೆ. ಆದರೆ ಸೇವೆ ನೀಡಿರುವುದಿಲ್ಲ. ಭರವಸೆ ನೀಡದಿರುವುದು ಮತ್ತು ಸೇವೆ ಒದಗಿಸಿರುವ ನಡುವಿನ ಅಂತರ, ಸೇವಾ ಗುಣಲಕ್ಷಣಗಳನ್ನು ಅತಿಯಾಗಿ ಹೇಳುವುದು ಮತ್ತು ಗ್ರಾಹಕರನ್ನು ಪುಸಲಾಯಿಸುವುದು, ಸುಳ್ಳು ಹೇಳುವುದು, ಮತ್ತು ಇನ್ನಿತರ ಸಮಸ್ಯೆಗಳನ್ನು ಗ್ರಾಹಕರು ಎದುರಿಸಿದರು.

ಸೇವೆ ಒದಗಿಸಿರುವುದು ಮತ್ತು ಬಾಹ್ಯ ಸಂವಹನದ ನಡುವಿನ ಅಂತರ ಒಂದು ಗ್ರಾಹಕ ಸಮಸ್ಯೆ, ಸೇವೆ ನೀಡುವವರು ತಮ್ಮ ಬಾಹ್ಯ ಸಂವಹನಗಳಾದ ಕೈಪಿಡಿ ಪುಸ್ತಕಗಳು, ಜಾಹೀರಾತುಗಳು, ವೈಯಕ್ತಿಕ ಮಾರುವಿಕೆ, ಇತರೆ ಭರವಸೆಗಳ ಮೂಲಕ ಗ್ರಾಹಕನ ನಿರೀಕ್ಷೆಯ ಮೇಲೆ ಪರಿಣಾಮವಾಗಬಹುದು. ಒಂದು ರೆಸಾರ್ಟ್ ಹೋಟೆಲ್‌ನ ಕೈಪಿಡಿ ಪುಸ್ತಕದಲ್ಲಿ ಸುಂದರವಾದ ಕೋಣೆಯನ್ನು ತೋರಿಸುತ್ತಾರೆ. ಆದರೆ ಅತಿಥಿ ಬಂದು ನೋಡಿದಾಗ ಕೋಣೆ ಕಳಪೆಯಾಗಿದ್ದು, ಮತ್ತು ಸಾಮಾನ್ಯವಾಗಿರುತ್ತದೆ. ಹಲವು ಬಾರಿ ಕೈಪಿಡಿ ಪುಸ್ತಕ ಅಥವಾ ಜಾಲತಾಣಗಳನ್ನು ಅಥವಾ ಜಾಹೀರಾತುಗಳನ್ನು ನೋಡಿ ಜನರು ಮುಂಗಡ ಬುಕಿಂಗ್ ಮಾಡುತ್ತಾರೆ. ಈ ಬುಕಿಂಗ್‌ಗಳಲ್ಲಿ ಹಣವನ್ನು ಸಹ ನೀಡಿರುತ್ತಾರೆ. ಗ್ರಾಹಕನಿಗೆ ಕೋಣೆ ವಾತಾವರಣ ಇಷ್ಟವಾಗದಿದ್ದರೆ, ಅವನಿಗೆ ಯಾವುದೇ ಅವಕಾಶಗಳಿರುವುದಿಲ್ಲ. ಏಕೆಂದರೆ ಹಲವು ಹೋಟೆಲ್‌ಗಳು ಹಣ ಹಿಂತಿರುಗಿಸುವುದಿಲ್ಲ.

ಕೆಲವು ಸಮಯದಲ್ಲಿ ಟೆಲಿಫೋನ್ ಸರಿಯಿಲ್ಲದಿದ್ದರೂ ನಾವು ಮೂಲ ಬಾಡಿಗೆ ಶುಲ್ಕವನ್ನು ಕಟ್ಟಬೇಕು. ಈ ಉದಾಹರಣೆಯಲ್ಲಿ ಯಾವ ಸೇವಾ ಸಂಬಂಧಿತ ಗ್ರಾಹಕ ಸಮಸ್ಯೆಯನ್ನು ತೋರಿಸಲಾಗಿದೆ?

1. ಹೆಚ್ಚಿನ ಬಿಲ್ ಮಾಡುವುದು
2. ಶುಲ್ಕ ನೀಡಿರುತ್ತಾರೆ ಆದರೆ ಸೇವೆ ನೀಡಿರುವುದಿಲ್ಲ
3. ಸುಳ್ಳು ಹೇಳುವುದು
4. ಸೇವಾ ಲಕ್ಷಣಗಳನ್ನು ಅತಿಯಾಗಿ ಹೇಳುವುದು

Options :

485584146329. 1
485584146330. 2
485584146331. 3
485584146332. 4

Question Number : 199 Question Id : 48558436584 Question Type : MCQ Option Shuffling : No Is Question Mandatory : No Calculator : None Response Time : N.A Think Time : N.A Minimum Instruction Time : 0

Correct Marks : 5 Wrong Marks : 1

Question Key Details :

Key	Value
Comprehension	Comp2

Read the passage carefully. Attempt Question

Consumers not only purchase products but a whole gamut of services like those of banks, other financial institutions, airlines and travel agencies; hospitals and other medical practitioners; public utilities like garbage collection, cleanliness and maintenance of roads, parks, etc; electricity water telephone, post and telegraph; educational institutions and so on.

Consumers face a number of problems with regard to these services like excessive billing, being charged but not delivering the service, gap between promised level of service and service that is delivered, overstating the service attributes and enticing the consumer, making false claims and so on.

Gap between service delivery and external communication is a consumer issue. Consumer expectations are affected by promises made by the service provider in his external communication which may be through brochures, advertisements, personal selling etc. E. g. If a resort hotel brochure shows a beautiful room but the guests arrive and find the room to be cheap and very ordinary. Many a times people make advance bookings based on the brochures or seeing the website or some other advertisements. In such bookings sometimes advance also has to be paid. If the customer does not like the room ambience he may be left with little choice since refunds are not given by many hotels.

Which of the following is NOT an example of aid used by service providers for external communication ?

1. Brochures
2. Board meeting
3. Advertisements
4. Personal selling

Options :

- 485584146333. 1
- 485584146334. 2
- 485584146335. 3
- 485584146336. 4

Question Number : 199 Question Id : 48558436584 Question Type : MCQ Option Shuffling : No Is Question Mandatory : No Calculator : None Response Time : N.A Think Time : N.A Minimum Instruction Time : 0

Correct Marks : 5 Wrong Marks : 1

Question Key Details :

Key	Value
Comprehension	Comp2

ವಾಕ್ಯಪುಂಜವನ್ನು ಗಮನವಿಟ್ಟು ಓದಿ ಪ್ರಶ್ನೆಗಳನ್ನು ಪುನಃ ಪಠಿಸಿ.

ಗ್ರಾಹಕ ಉತ್ಪನ್ನವನ್ನು ಮಾತ್ರ ಖರೀದಿಸಿದ್ದಲ್ಲದೆ ಎಲ್ಲಾ ಸೇವೆಗಳಿಂದ, ಬ್ಯಾಂಕ್, ಇತರ ಆರ್ಥಿಕ ಸಂಸ್ಥೆಗಳು, ವಿಮಾನಯಾನ ಸಂಸ್ಥೆಗಳು ಮತ್ತು ಪ್ರವಾಸಿ ಏಜೆನ್ಸಿಗಳು, ಆಸ್ಪತ್ರೆಗಳು ಮತ್ತು ವೈದ್ಯಾಧಿಕಾರಿಗಳು, ಸಾರ್ವಜನಿಕ ಸೌಲಭ್ಯಗಳಾದ ಕಸ ಸಂಗ್ರಹಣೆ, ಶುಚಿತ್ವ ಮತ್ತು ರಸ್ತೆಗಳು ಮತ್ತು ಉದ್ಯೋಗ ನಿರ್ವಹಣೆ, ಇತರ, ವಿದ್ಯುತ್, ನೀರು, ಟೆಲಿಫೋನ್, ಅಂಚೆ ಮತ್ತು ತಂತ್ರೀಕೃತ ಶೈಕ್ಷಣಿಕ ಸಂಸ್ಥೆಗಳು ಮತ್ತಿತರಗಳನ್ನು ಖರೀದಿಸಿದನು. ಈ ಸೇವೆಗಳಿಗೆ ಸಂಬಂಧಿಸಿದಂತೆ ಹೆಚ್ಚಿನ ಬಿಲ್ ಮಾಡುವುದು, ಶುಲ್ಕ ನೀಡಿರುತ್ತಾರೆ. ಆದರೆ ಸೇವೆ ನೀಡಿರುವುದಿಲ್ಲ. ಭರವಸೆ ನೀಡದಿರುವುದು ಮತ್ತು ಸೇವೆ ಒದಗಿಸಿರುವ ನಡುವಿನ ಅಂತರ, ಸೇವಾ ಗುಣಲಕ್ಷಣಗಳನ್ನು ಅತಿಯಾಗಿ ಹೇಳುವುದು ಮತ್ತು ಗ್ರಾಹಕರನ್ನು ಪುಸಲಾಯಿಸುವುದು, ಸುಳ್ಳು ಹೇಳುವುದು, ಮತ್ತು ಇನ್ನಿತರ ಸಮಸ್ಯೆಗಳನ್ನು ಗ್ರಾಹಕರು ಎದುರಿಸಿದರು.

ಸೇವೆ ಒದಗಿಸಿರುವುದು ಮತ್ತು ಬಾಹ್ಯ ಸಂವಹನದ ನಡುವಿನ ಅಂತರ ಒಂದು ಗ್ರಾಹಕ ಸಮಸ್ಯೆ, ಸೇವೆ ನೀಡುವವರು ತಮ್ಮ ಬಾಹ್ಯ ಸಂವಹನಗಳಾದ ಕೈಪಿಡಿ ಪುಸ್ತಕಗಳು, ಜಾಹೀರಾತುಗಳು, ವೈಯಕ್ತಿಕ ಮಾರುವಿಕೆ, ಇತರ ಭರವಸೆಗಳ ಮೂಲಕ ಗ್ರಾಹಕನ ನಿರೀಕ್ಷೆಯ ಮೇಲೆ ಪರಿಣಾಮವಾಗಬಹುದು. ಒಂದು ರಿಸಾರ್ಟ್ ಹೋಟೆಲ್‌ನ ಕೈಪಿಡಿ ಪುಸ್ತಕದಲ್ಲಿ ಸುಂದರವಾದ ಕೋಣೆಯನ್ನು ತೋರಿಸುತ್ತಾರೆ. ಆದರೆ ಅತಿಥಿ ಬಂದು ನೋಡಿದಾಗ ಕೋಣೆ ಕಳಪೆಯಾಗಿದ್ದು, ಮತ್ತು ಸಾಮಾನ್ಯವಾಗಿರುತ್ತದೆ. ಹಲವು ಬಾರಿ ಕೈಪಿಡಿ ಪುಸ್ತಕ ಅಥವಾ ಜಾಲತಾಣಗಳನ್ನು ಅಥವಾ ಜಾಹೀರಾತುಗಳನ್ನು ನೋಡಿ ಜನರು ಮುಂಗಡ ಬುಕಿಂಗ್ ಮಾಡುತ್ತಾರೆ. ಈ ಬುಕಿಂಗ್‌ಗಳಲ್ಲಿ ಹಣವನ್ನು ಸಹ ನೀಡಿರುತ್ತಾರೆ. ಗ್ರಾಹಕನಿಗೆ ಕೋಣೆ ವಾತಾವರಣ ಇಷ್ಟವಾಗದಿದ್ದರೆ, ಅವನಿಗೆ ಯಾವುದೇ ಅವಕಾಶಗಳಿರುವುದಿಲ್ಲ. ಏಕೆಂದರೆ ಹಲವು ಹೋಟೆಲ್‌ಗಳು ಹಣ ಹಿಂತಿರುಗಿಸುವುದಿಲ್ಲ.

ಕೆಳಗಿನ ವ್ಯುತ್ಪನ್ನಗಳಲ್ಲಿ ಬಾಹ್ಯ ಸಂವಹನಕ್ಕೆ ಸೇವೆ ನೀಡುವವರು ಬಳಸಿರುವ ಸಾಧನಕ್ಕೆ ಉದಾಹರಣೆ ಯಾವುದು?

- A. ಮಂಡಳಿ ಸಭೆ
- B. ಕೈಪಿಡಿ ಪುಸ್ತಕ
- C. ಜಾಹೀರಾತುಗಳು
- D. ವೈಯಕ್ತಿಕ ಮಾರುವಿಕೆ
- E. ರಿಯಾಯಿತಿಗಳು

ಈ ಕೆಳಗಿನ ಆಯ್ಕೆಗಳಿಂದ ಸರಿಯಾದ ಉತ್ತರವನ್ನು ಆರಿಸಿ:

1. A, C ಮತ್ತು D ಮಾತ್ರ
2. B, C ಮತ್ತು D ಮಾತ್ರ
3. B, D ಮತ್ತು E ಮಾತ್ರ
4. A, B ಮತ್ತು C ಮಾತ್ರ

Options :

- 485584146333. 1
- 485584146334. 2
- 485584146335. 3
- 485584146336. 4

Question Number : 200 Question Id : 48558436585 Question Type : MCQ Option Shuffling : No Is Question Mandatory : No Calculator : None Response Time : N.A Think Time : N.A Minimum Instruction Time : 0

Correct Marks : 5 Wrong Marks : 1

Question Key Details :

Key	Value
Comprehension	Comp2

Read the passage carefully. Attempt Question

Consumers not only purchase products but a whole gamut of services like those of banks, other financial institutions, airlines and travel agencies; hospitals and other medical practitioners; public utilities like garbage collection, cleanliness and maintenance of roads, parks, etc; electricity water telephone, post and telegraph; educational institutions and so on.

Consumers face a number of problems with regard to these services like excessive billing, being charged but not delivering the service, gap between promised level of service and service that is delivered, overstating the service attributes and enticing the consumer, making false claims and so on.

Gap between service delivery and external communication is a consumer issue. Consumer expectations are affected by promises made by the service provider in his external communication which may be through brochures, advertisements, personal selling etc. E. g. If a resort hotel brochure shows a beautiful room but the guests arrive and find the room to be cheap and very ordinary. Many a times people make advance bookings based on the brochures or seeing the website or some other advertisements. In such bookings sometimes advance also has to be paid. If the customer does not like the room ambience he may be left with little choice since refunds are not given by many hotels.

A family had gone on vacation for a month but received electricity bill for the same month running in several thousands. Which service related consumer problems is depicted in this case?

1. Excessive billing
2. Being charged but not delivering the service
3. Making false claims
4. Overstating the service attributes

Options :

- 485584146337. 1
- 485584146338. 2
- 485584146339. 3
- 485584146340. 4

Question Number : 200 Question Id : 48558436585 Question Type : MCQ Option Shuffling : No Is Question Mandatory : No Calculator : None Response Time : N.A Think Time : N.A Minimum Instruction Time : 0

Correct Marks : 5 Wrong Marks : 1

Question Key Details :

Key	Value
Comprehension	Comp2

ವಾಕ್ಯಪುಂಜವನ್ನು ಗಮನವಿಟ್ಟು ಓದಿ ಪ್ರಶ್ನೆಗಳನ್ನು ಪುಯತ್ನಿಸಿ.

ಗ್ರಾಹಕ ಉತ್ಪನ್ನವನ್ನು ಮಾತ್ರ ಖರೀದಿಸಿದ್ದಲ್ಲದೆ ಎಲ್ಲಾ ಸೇವೆಗಳಿಂದ, ಬ್ಯಾಂಕ್, ಇತರೆ ಆರ್ಥಿಕ ಸಂಸ್ಥೆಗಳು, ವಿಮಾನಯಾನ ಸಂಸ್ಥೆಗಳು ಮತ್ತು ಪ್ರವಾಸಿ ಖಜೀನಿಗಳು, ಆಸ್ಪತ್ರೆಗಳು ಮತ್ತು ವೈದ್ಯಾಧಿಕಾರಿಗಳು, ಸಾರ್ವಜನಿಕ ಸೌಲಭ್ಯಗಳಾದ ಕಸ ಸಂಗ್ರಹಣೆ, ಶುಚಿತ್ವ ಮತ್ತು ರಸ್ತೆಗಳು ಮತ್ತು ಉದ್ಯೋಗ ನಿರ್ವಹಣೆ, ಇತರೆ, ವಿದ್ಯುತ್, ನೀರು, ಟೆಲಿಫೋನ್, ಅಂಚೆ ಮತ್ತು ತಂತ್ರೀಕೃತ ಸಂಸ್ಥೆಗಳು ಮತ್ತಿತರಗಳನ್ನು ಖರೀದಿಸಿದನು. ಈ ಸೇವೆಗಳಿಗೆ ಸಂಬಂಧಿಸಿದಂತೆ ಹೆಚ್ಚಿನ ಬಿಲ್ ಮಾಡುವುದು, ಶುಲ್ಕ ನೀಡಿರುತ್ತಾರೆ. ಆದರೆ ಸೇವೆ ನೀಡಿರುವುದಿಲ್ಲ. ಭರವಸೆ ನೀಡದಿರುವುದು ಮತ್ತು ಸೇವೆ ಒದಗಿಸಿರುವ ನಡುವಿನ ಅಂತರ, ಸೇವಾ ಗುಣಲಕ್ಷಣಗಳನ್ನು ಅತಿಯಾಗಿ ಹೇಳುವುದು ಮತ್ತು ಗ್ರಾಹಕರನ್ನು ಪುಸಲಾಯಿಸುವುದು, ಸುಳ್ಳು ಹೇಳುವುದು, ಮತ್ತು ಇನ್ನಿತರ ಸಮಸ್ಯೆಗಳನ್ನು ಗ್ರಾಹಕರು ಎದುರಿಸಿದರು.

ಸೇವೆ ಒದಗಿಸಿರುವುದು ಮತ್ತು ಬಾಹ್ಯ ಸಂವಹನದ ನಡುವಿನ ಅಂತರ ಒಂದು ಗ್ರಾಹಕ ಸಮಸ್ಯೆ, ಸೇವೆ ನೀಡುವವರು ತಮ್ಮ ಬಾಹ್ಯ ಸಂವಹನಗಳಾದ ಕೈಪಿಡಿ ಪುಸ್ತಕಗಳು, ಜಾಹೀರಾತುಗಳು, ವೈಯಕ್ತಿಕ ಮಾರುವಿಕೆ, ಇತರೆ ಭರವಸೆಗಳ ಮೂಲಕ ಗ್ರಾಹಕನ ನಿರೀಕ್ಷೆಯ ಮೇಲೆ ಪರಿಣಾಮವಾಗಬಹುದು. ಒಂದು ರಿಸಾರ್ಟ್ ಹೋಟೆಲ್‌ನ ಕೈಪಿಡಿ ಪುಸ್ತಕದಲ್ಲಿ ಸುಂದರವಾದ ಕೋಣೆಯನ್ನು ತೋರಿಸುತ್ತಾರೆ. ಆದರೆ ಅತಿಥಿ ಬಂದು ನೋಡಿದಾಗ ಕೋಣೆ ಕಳಪೆಯಾಗಿದ್ದು, ಮತ್ತು ಸಾಮಾನ್ಯವಾಗಿರುತ್ತದೆ. ಹಲವು ಬಾರಿ ಕೈಪಿಡಿ ಪುಸ್ತಕ ಅಥವಾ ಜಾಲತಾಣಗಳನ್ನು ಅಥವಾ ಜಾಹೀರಾತುಗಳನ್ನು ನೋಡಿ ಜನರು ಮುಂಗಡ ಬುಕಿಂಗ್ ಮಾಡುತ್ತಾರೆ. ಈ ಬುಕಿಂಗ್‌ಗಳಲ್ಲಿ ಹಣವನ್ನು ಸಹ ನೀಡಿರುತ್ತಾರೆ. ಗ್ರಾಹಕನಿಗೆ ಕೋಣೆ ವಾತಾವರಣ ಇಷ್ಟವಾಗದಿದ್ದರೆ, ಅವನಿಗೆ ಯಾವುದೇ ಅವಕಾಶಗಳಿರುವುದಿಲ್ಲ. ಏಕೆಂದರೆ ಹಲವು ಹೋಟೆಲ್‌ಗಳು ಹಣ ಹಿಂತಿರುಗಿಸುವುದಿಲ್ಲ.

ಒಂದು ಕುಟುಂಬವು ಒಂದು ತಿಂಗಳ ಕಾಲ ರಜೆಯ ಮೇಲಿದ್ದರು. ಆದರೆ ಆ ತಿಂಗಳಿನ ವಿದ್ಯುತ್ ಬಿಲ್ ಹಲವು ಸಾವಿರಕ್ಕೆ ತಲುಪಿತು. ಈ ಉದಾಹರಣೆಯಲ್ಲಿ ಯಾವ ಸೇವಾ ಸಂಬಂಧಿತ ಗ್ರಾಹಕ ಸಮಸ್ಯೆಯನ್ನು ತೋರಿಸಲಾಗಿದೆ?

1. ಹೆಚ್ಚಿನ ಬಿಲ್ ಮಾಡುವುದು
2. ಶುಲ್ಕ ನೀಡಿರುತ್ತಾರೆ ಆದರೆ ಸೇವೆ ನೀಡಿರುವುದಿಲ್ಲ
3. ಸುಳ್ಳು ಹೇಳುವುದು
4. ಸೇವಾ ಲಕ್ಷಣಗಳನ್ನು ಅತಿಯಾಗಿ ಹೇಳುವುದು

Options :

485584146337. 1
485584146338. 2
485584146339. 3
485584146340. 4

Teaching Aptitude

Group Number :	6
Group Id :	485584826
Group Maximum Duration :	45
Group Minimum Duration :	45
Show Attended Group? :	No
Edit Attended Group? :	No
Break time :	0
Group Marks :	200
Is this Group for Examiner? :	No
Examiner permission :	Cant View

Show Progress Bar? :

No

Teaching Aptitude

Section Id : 485584950
Section Number : 1
Section type : Online
Mandatory or Optional : Mandatory
Number of Questions : 50
Number of Questions to be attempted : 40
Section Marks : 200
Enable Mark as Answered Mark for Review and Clear Response : Yes
Maximum Instruction Time : 0
Sub-Section Number : 1
Sub-Section Id : 4855842702
Question Shuffling Allowed : Yes
Is Section Default? : null

Question Number : 201 Question Id : 48558436586 Question Type : MCQ Option Shuffling : No Is Question Mandatory : No Calculator : None Response Time : N.A Think Time : N.A Minimum Instruction Time : 0
Correct Marks : 5 Wrong Marks : 1

Question Key Details :

Key	Value
Comprehension	MCQ

Match List I with List II

LIST I Dance		LIST II Artists	
A.	Bharatnatyam	I.	Savita Mehta
B.	Odissi	II.	Sitara Devi
C.	Kathak	III.	Yamini Krishnamurthy
D.	Manipuri	IV.	Sanjukta Panigrahi

Choose the correct answer from the options given below:

1. A-III, B-IV, C-II, D-I
2. A-III, B-II, C-IV, D-I
3. A-II, B-IV, C-III, D-I
4. A-II, B-I, C-IV, D-III

Options :

485584146341. 1
485584146342. 2
485584146343. 3
485584146344. 4

Question Number : 201 Question Id : 48558436586 Question Type : MCQ Option Shuffling : No Is Question Mandatory : No Calculator : None Response Time : N.A Think Time : N.A Minimum Instruction Time : 0
Correct Marks : 5 Wrong Marks : 1

Question Key Details :

Key	Value
Comprehension	MCQ

ಪಟ್ಟಿ - I ಅನ್ನು ಪಟ್ಟಿ - IIರ ಜೊತೆ ಹೊಂದಿಸಿ.

ಪಟ್ಟಿ - I ನೃತ್ಯ	ಪಟ್ಟಿ - II ಕಲಾವಿದರು
A. ಭರತನಾಟ್ಯಂ	I. ಸವಿತಾ ಮಹಾ
B. ಒಡಿಸ್ಸಿ	II. ಸಿತಾರಾ ದೇವಿ
C. ಕಥಕ್	III. ಯಾಮಿನಿ ಕೃಷ್ಣಮೂರ್ತಿ
D. ಮಣಿಪುರಿ	IV. ಸಂಯುಕ್ತಾ ಪಾಣಿಗ್ರಹಿ

ಈ ಕೆಳಗಿನ ಆಯ್ಕೆಗಳಿಂದ ಸರಿಯಾದ ಉತ್ತರವನ್ನು ಆರಿಸಿ:

1. A-III, B-IV, C-II, D-I
2. A-III, B-II, C-IV, D-I
3. A-II, B-IV, C-III, D-I
4. A-II, B-I, C-IV, D-III

Options :

485584146341. 1
485584146342. 2
485584146343. 3
485584146344. 4

Question Number : 202 Question Id : 48558436587 Question Type : MCQ Option Shuffling : No Is Question Mandatory : No Calculator : None Response Time : N.A Think Time : N.A Minimum Instruction Time : 0

Correct Marks : 5 Wrong Marks : 1

Question Key Details :

Key	Value
Comprehension	MCQ

DD Gyan Darshan is an educational media initiative of Ministry of Education in collaboration with-

- A. Ministry of Information and Broadcasting
- B. Prasar Bharti
- C. ISRO
- D. IGNOU
- E. Ministry of Information and Communication Technology

Choose the correct answer from the options given below:

1. A, B and C only
2. A, C and D only
3. A, B, C and D only
4. B, C and E only

Options :

485584146345. 1
485584146346. 2
485584146347. 3
485584146348. 4

Question Number : 202 Question Id : 48558436587 Question Type : MCQ Option Shuffling : No Is Question Mandatory : No Calculator : None Response Time : N.A Think Time : N.A Minimum Instruction Time : 0

Correct Marks : 5 Wrong Marks : 1

Question Key Details :

Key	Value
Comprehension	MCQ

ಡಿಡಿ ಗ್ಯಾನ್ ದರ್ಶನವು ಶಿಕ್ಷಣ ಮಂತ್ರಾಲಯದ ಒಂದು ಶೈಕ್ಷಣಿಕ ಮಾಧ್ಯಮ ಪ್ರಯತ್ನವಾಗಿದ್ದು, ಇದರ ಸಹಯೋಗದೊಂದಿಗೆ-

- A. ಮಾಹಿತಿ ಮತ್ತು ಪ್ರಸಾರ ಮಂತ್ರಾಲಯ
- B. ಪ್ರಸಾರ ಭಾರತಿ
- C. ISRO
- D. IGNOU
- E. ಮಾಹಿತಿ ಮತ್ತು ಸಂವಹನ ತಂತ್ರಜ್ಞಾನ ಮಂತ್ರಾಲಯ

ಈ ಕೆಳಗಿನ ಆಯ್ಕೆಗಳಿಂದ ಸರಿಯಾದ ಉತ್ತರವನ್ನು ಆರಿಸಿ:

- 1. A, B ಮತ್ತು C ಮಾತ್ರ
- 2. A, C ಮತ್ತು D ಮಾತ್ರ
- 3. A, B, C ಮತ್ತು D ಮಾತ್ರ
- 4. B, C ಮತ್ತು E ಮಾತ್ರ

Options :

485584146345. 1
485584146346. 2
485584146347. 3
485584146348. 4

Question Number : 203 Question Id : 48558436588 Question Type : MCQ Option Shuffling : No Is Question Mandatory : No Calculator : None Response Time : N.A Think Time : N.A Minimum Instruction Time : 0

Correct Marks : 5 Wrong Marks : 1

Question Key Details :

Key	Value
Comprehension	MCQ

Match List I with List II

LIST I		LIST II	
A.	Thappad	I.	Women's bodies and commercial gains
B.	Mimi	II.	Quality education for all
C.	Black	III.	Domestic violence and dignity
D.	Hichki	IV.	Right to a dignified life and knowledge

Choose the correct answer from the options given below:

1. A-III, B-I, C-IV, D-II
2. A-I, B-III, C-IV, D-II
3. A-III, B-I, C-II, D-IV
4. A-III, B-II, C-IV, D-I

Options :

485584146349. 1
485584146350. 2
485584146351. 3
485584146352. 4

Question Number : 203 Question Id : 48558436588 Question Type : MCQ Option Shuffling : No Is Question Mandatory : No Calculator : None Response Time : N.A Think Time : N.A Minimum Instruction Time : 0

Correct Marks : 5 Wrong Marks : 1

Question Key Details :

Key	Value
Comprehension	MCQ

ಪಟ್ಟಿ - I ಅನ್ನು ಪಟ್ಟಿ - IIರ ಜೊತೆ ಹೊಂದಿಸಿ.

ಪಟ್ಟಿ - I		ಪಟ್ಟಿ - II	
A.	ಫ್ರಪ್ಪಡ್	I.	ಮಹಿಳಾ ಸಂಸ್ಥೆಗಳು ಮತ್ತು ವಾಣಿಜ್ಯಾತ್ಮಕ ಲಾಭಗಳು
B.	ಮಿಮಿ	II.	ಎಲ್ಲರಿಗೂ ಗುಣಮಟ್ಟದ ಶಿಕ್ಷಣ
C.	ಬ್ಲಾಕ್	III.	ಮನೆ ಗಲಭೆ ಮತ್ತು ಘನತೆ
D.	ಹಿಚ್ಕಿ	IV.	ಘನತೆಯುಕ್ತ ಜೀವನ ಮತ್ತು ಜ್ಞಾನದ ಹಕ್ಕು

ಈ ಕೆಳಗಿನ ಆಯ್ಕೆಗಳಿಂದ ಸರಿಯಾದ ಉತ್ತರವನ್ನು ಆರಿಸಿ:

1. A-III, B-I, C-IV, D-II
2. A-I, B-III, C-IV, D-II
3. A-III, B-I, C-II, D-IV
4. A-III, B-II, C-IV, D-I

Options :

485584146349. 1
485584146350. 2
485584146351. 3

485584146352. 4

Question Number : 204 Question Id : 48558436589 Question Type : MCQ Option Shuffling : No Is Question Mandatory : No Calculator : None Response Time : N.A Think Time : N.A Minimum Instruction Time : 0

Correct Marks : 5 Wrong Marks : 1

Question Key Details :

Key	Value
Comprehension	MCQ

In the story 'Idgah' the protagonist Hamid buys a _____ for _____ from the fair.

1. pair of tongs, his grandmother
2. pair of tongs, his mother
3. clay doll, himself
4. clay doll, his grandmother

Options :

485584146353. 1
485584146354. 2
485584146355. 3
485584146356. 4

Question Number : 204 Question Id : 48558436589 Question Type : MCQ Option Shuffling : No Is Question Mandatory : No Calculator : None Response Time : N.A Think Time : N.A Minimum Instruction Time : 0

Correct Marks : 5 Wrong Marks : 1

Question Key Details :

Key	Value
Comprehension	MCQ

'ಇದ್ದಾ' ಕತೆಯಲ್ಲಿ ಮುಖಂಡ ಹಮೀದನು ಒಂದು _____ ಅನ್ನು _____ ಗೆ ಸಂತೆಯಿಂದ ಕೊಂಡುಕೊಳ್ಳುವನು.

1. ಜೊತೆ ಇಕ್ಕಳ, ಅವನ ಅಜ್ಜಿ
2. ಜೊತೆ ಇಕ್ಕಳ, ಅವನ ತಾಯಿ
3. ಜೇಡಿ ಮಣ್ಣಿನ ಗೊಂಬೆ, ಅವನಿಗೆ
4. ಜೇಡಿಮಣ್ಣಿನ ಗೊಂಬೆ, ಅವನ ಅಜ್ಜಿ

Options :

485584146353. 1
485584146354. 2
485584146355. 3
485584146356. 4

Question Number : 205 Question Id : 48558436590 Question Type : MCQ Option Shuffling : No Is Question Mandatory : No Calculator : None Response Time : N.A Think Time : N.A Minimum Instruction Time : 0

Correct Marks : 5 Wrong Marks : 1

Question Key Details :

Key	Value
Comprehension	MCQ

Who is the first female Indian scientist to receive a PhD degree in a scientific discipline?

1. Kamala Sohanie
2. Janaki Ammal
3. Anandibai Gopalrao Joshi
4. Asima Chaterjee

Options :

485584146357. 1
485584146358. 2
485584146359. 3
485584146360. 4

Question Number : 205 Question Id : 48558436590 Question Type : MCQ Option Shuffling : No Is Question Mandatory : No Calculator : None Response Time : N.A Think Time : N.A Minimum Instruction Time : 0

Correct Marks : 5 Wrong Marks : 1

Question Key Details :

Key	Value
Comprehension	MCQ

ವಿಜ್ಞಾನ ಕ್ಷೇತ್ರದಲ್ಲಿ ಪಿ.ಎಚ್.ಡಿ. ಪದವಿ ಪಡೆದ ಪ್ರಥಮ ಭಾರತೀಯ ಸ್ತ್ರೀವಿಜ್ಞಾನಿ ಯಾರು?

1. ಕಮಲ ಸೋಹನಿ
2. ಜಾನಕಿ ಅಮ್ಮಾಳ್
3. ಆನಂದಿಬಾಯಿ ಗೋಪಾಲರಾವ್ ಜೋಷಿ
4. ಅಸೀಮಾ ಚಟರ್ಜಿ

Options :

485584146357. 1
485584146358. 2
485584146359. 3
485584146360. 4

Question Number : 206 Question Id : 48558436591 Question Type : MCQ Option Shuffling : No Is Question Mandatory : No Calculator : None Response Time : N.A Think Time : N.A Minimum Instruction Time : 0

Correct Marks : 5 Wrong Marks : 1

Question Key Details :

Key	Value
Comprehension	MCQ

In the film, 'Chak De India', which of the following themes was not addressed?

1. National integration
2. Child labour
3. Women Empowerment
4. Religious Harmony

Options :

485584146361. 1
485584146362. 2
485584146363. 3
485584146364. 4

Question Number : 206 Question Id : 48558436591 Question Type : MCQ Option Shuffling : No Is Question Mandatory : No Calculator : None Response Time : N.A Think Time : N.A Minimum Instruction Time : 0

Correct Marks : 5 Wrong Marks : 1

Question Key Details :

Key	Value
Comprehension	MCQ

'ಚಕ್ ದೇ ಇಂಡಿಯಾ' ಚಲನಚಿತ್ರದಲ್ಲಿ ಕೆಳಗಿನ ಯಾವ ತತ್ವವನ್ನು ಹೇಳಿಲ್ಲ?

1. ರಾಷ್ಟ್ರೀಯ ಐಕ್ಯತೆ
2. ಬಾಲಕಾರ್ಮಿಕ
3. ಮಹಿಳಾ ಸಬಲೀಕರಣ
4. ಧಾರ್ಮಿಕ ಸೌಹಾರ್ದತೆ

Options :

485584146361. 1
485584146362. 2
485584146363. 3
485584146364. 4

Question Number : 207 Question Id : 48558436592 Question Type : MCQ Option Shuffling : No Is Question Mandatory : No Calculator : None Response Time : N.A Think Time : N.A Minimum Instruction Time : 0

Correct Marks : 5 Wrong Marks : 1

Question Key Details :

Key	Value
Comprehension	MCQ

The stories by Premchand primarily deal with:

- A. Challenges faced by children
- B. issues related to women
- C. struggles of the professional class
- D. struggles of the rural poor
- E. the character of villages in medieval India

Choose the most appropriate answer from the options given below:

- 1. B, C and E only
- 2. D, A and E only
- 3. C, D and A only
- 4. A, B and D only

Options :

- 485584146365. 1
- 485584146366. 2
- 485584146367. 3
- 485584146368. 4

Question Number : 207 Question Id : 48558436592 Question Type : MCQ Option Shuffling : No Is Question Mandatory : No Calculator : None Response Time : N.A Think Time : N.A Minimum Instruction Time : 0

Correct Marks : 5 Wrong Marks : 1

Question Key Details :

Key	Value
Comprehension	MCQ

ಪ್ರೇಮಚಂದರ ಕಥೆಗಳು ಪ್ರಾಥಮಿಕವಾಗಿ ಹೇಳುವುದು ಇದನ್ನು:

- A. ಮಕ್ಕಳು ಎದುರಿಸಿದ ಸವಾಲುಗಳನ್ನು
- B. ಮಹಿಳೆಯರಿಗೆ ಸಂಬಂಧಿಸಿದ ವಿಷಯಗಳನ್ನು
- C. ವೃತ್ತಿಪರ ವರ್ಗದ ಹೋರಾಟಗಳನ್ನು
- D. ಗ್ರಾಮೀಣ ಬಡಜನರ ಹೋರಾಟಗಳನ್ನು
- E. ಮಧ್ಯಕಾಲೀನ ಭಾರತದಲ್ಲಿನ ಹಳ್ಳಿಗಳ ಲಕ್ಷಣಗಳನ್ನು

ಈ ಕೆಳಗಿನ ಆಯ್ಕೆಗಳಿಂದ ಸರಿಯಾದ ಉತ್ತರವನ್ನು ಆರಿಸಿ:

- 1. B, C ಮತ್ತು E ಮಾತ್ರ
- 2. D, A ಮತ್ತು E ಮಾತ್ರ
- 3. C, D ಮತ್ತು A ಮಾತ್ರ
- 4. A, B ಮತ್ತು D ಮಾತ್ರ

Options :

- 485584146365. 1
- 485584146366. 2
- 485584146367. 3

485584146368. 4

Question Number : 208 Question Id : 48558436593 Question Type : MCQ Option Shuffling : No Is Question Mandatory : No Calculator : None Response Time : N.A Think Time : N.A Minimum Instruction Time : 0

Correct Marks : 5 Wrong Marks : 1

Question Key Details :

Key	Value
Comprehension	MCQ

The central theme of the Hindi film, 'Dangal' is:

1. Urban-rural social divide in the state of Haryana
2. Women in a male- dominated sport
3. Relationship between siblings
4. Mother - daughter relationship

Options :

485584146369. 1
485584146370. 2
485584146371. 3
485584146372. 4

Question Number : 208 Question Id : 48558436593 Question Type : MCQ Option Shuffling : No Is Question Mandatory : No Calculator : None Response Time : N.A Think Time : N.A Minimum Instruction Time : 0

Correct Marks : 5 Wrong Marks : 1

Question Key Details :

Key	Value
Comprehension	MCQ

ಹಿಂದಿ ಚಲನಚಿತ್ರ 'ದಂಗಲ್'ನ ಕೇಂದ್ರೀಯ ತತ್ವವು:

1. ಹರ್ಯಾಣ ರಾಜ್ಯದಲ್ಲಿನ ನಗರ-ಗ್ರಾಮೀಣ ಸಾಮಾಜಿಕ ಭೇದ
2. ಒಂದು ಪುರುಷ ಪ್ರಧಾನ ಆಟದಲ್ಲಿ ಮಹಿಳೆ
3. ಸಹೋದರರ ನಡುವಿನ ಸಂಬಂಧ
4. ತಾಯಿ-ಮಗಳ ಸಂಬಂಧ

Options :

485584146369. 1
485584146370. 2
485584146371. 3
485584146372. 4

Question Number : 209 Question Id : 48558436594 Question Type : MCQ Option Shuffling : No Is Question Mandatory : No Calculator : None Response Time : N.A Think Time : N.A Minimum Instruction Time : 0

Correct Marks : 5 Wrong Marks : 1

Question Key Details :

Key	Value
-----	-------

Comprehension	MCQ
---------------	-----

Tagore's alternate school 'Shantiniketan' did NOT promote:

1. Open classrooms
2. Simplicity of the learning process
3. Teaching in the mother tongue
4. Discipline in children

Options :

485584146373. 1
485584146374. 2
485584146375. 3
485584146376. 4

Question Number : 209 Question Id : 48558436594 Question Type : MCQ Option Shuffling : No Is Question Mandatory : No Calculator : None Response Time : N.A Think Time : N.A Minimum Instruction Time : 0

Correct Marks : 5 Wrong Marks : 1

Question Key Details :

Key	Value
Comprehension	MCQ

ಟ್ಯಾಗೋರರ ಪರ್ಯಾಯ ಶಾಲೆ 'ಶಾಂತಿನಿಕೇತನ'ವು ಇದನ್ನು ಉತ್ತೇಜಿಸುವುದಿಲ್ಲ:

1. ಮುಕ್ತ ತರಗತಿ ಕೊಠಡಿಗಳು
2. ಕಲಿಕಾ ಪ್ರಕ್ರಿಯೆಯ ಸರಳತೆ
3. ಮಾತೃಭಾಷೆಯಲ್ಲಿ ಬೋಧನೆ
4. ಮಕ್ಕಳಲ್ಲಿನ ಶಿಸ್ತು

Options :

485584146373. 1
485584146374. 2
485584146375. 3
485584146376. 4

Question Number : 210 Question Id : 48558436595 Question Type : MCQ Option Shuffling : No Is Question Mandatory : No Calculator : None Response Time : N.A Think Time : N.A Minimum Instruction Time : 0

Correct Marks : 5 Wrong Marks : 1

Question Key Details :

Key	Value
Comprehension	MCQ

Which of the following is not a Children's novel?

1. Ahimsa
2. Charlie and the Chocolate Factory
3. A Thousand Splendid Suns
4. Wonder

Options :

485584146377. 1
485584146378. 2
485584146379. 3
485584146380. 4

Question Number : 210 Question Id : 48558436595 Question Type : MCQ Option Shuffling : No Is Question Mandatory : No Calculator : None Response Time : N.A Think Time : N.A Minimum Instruction Time : 0

Correct Marks : 5 Wrong Marks : 1

Question Key Details :

Key	Value
Comprehension	MCQ

ಕೆಳಗಿನವುಗಳಲ್ಲಿ ಯಾವುದು ಮಕ್ಕಳ ಕಾದಂಬರಿಯಲ್ಲ?

1. ಅಹಿಂಸಾ
2. ಚಾರ್ಲಿ ಮತ್ತು ದಿ ಚಾಕೊಲೆಟ್ ಫ್ಯಾಕ್ಟರಿ
3. ಎ ಥೌಸಂಡ್ ಸ್ಪೆಂಡಿಡ್ ಸನ್ಸ್
4. ವಂಡರ್

Options :

485584146377. 1
485584146378. 2
485584146379. 3
485584146380. 4

Question Number : 211 Question Id : 48558436596 Question Type : MCQ Option Shuffling : No Is Question Mandatory : No Calculator : None Response Time : N.A Think Time : N.A Minimum Instruction Time : 0

Correct Marks : 5 Wrong Marks : 1

Question Key Details :

Key	Value
Comprehension	MCQ

Which among the following are 'Pros' of 5G Technology?

- A. Greater Transmission Speed
- B. Overcrowded Radio frequency
- C. Increased connectivity
- D. Wider Coverage
- E. High Energy consumption

Choose the correct answer from the options given below:

1. B, C and E only
2. A, C and D only
3. B, C and D only
4. A, C and E only

Options :

- 485584146381. 1
- 485584146382. 2
- 485584146383. 3
- 485584146384. 4

Question Number : 211 Question Id : 48558436596 Question Type : MCQ Option Shuffling : No Is Question Mandatory : No Calculator : None Response Time : N.A Think Time : N.A Minimum Instruction Time : 0

Correct Marks : 5 Wrong Marks : 1

Question Key Details :

Key	Value
Comprehension	MCQ

ಕೆಳಗಿನವುಗಳಲ್ಲಿ 5G ತಂತ್ರಜ್ಞಾನದ ಅನುಕೂಲಗಳು ಯಾವುವು?

- A. ಹೆಚ್ಚಿನ ಪ್ರಸಾರಣ ವೇಗ
- B. ರೇಡಿಯೋ ತರಂಗ ಹೆಚ್ಚು ತುಂಬಿಕೊಂಡಿರುವುದು
- C. ಹೆಚ್ಚಿನ ಸಂಪರ್ಕ
- D. ವಿಶಾಲ ವ್ಯಾಪಿಸುವಿಕೆ
- E. ಹೆಚ್ಚಿನ ಶಕ್ತಿ ಬಳಕೆ

ಈ ಕೆಳಗಿನ ಆಯ್ಕೆಗಳಿಂದ ಸರಿಯಾದ ಉತ್ತರವನ್ನು ಆರಿಸಿ:

1. B, C ಮತ್ತು E ಮಾತ್ರ
2. A, C ಮತ್ತು D ಮಾತ್ರ
3. B, C ಮತ್ತು D ಮಾತ್ರ
4. A, C ಮತ್ತು E ಮಾತ್ರ

Options :

- 485584146381. 1
- 485584146382. 2
- 485584146383. 3

485584146384. 4

Question Number : 212 Question Id : 48558436597 Question Type : MCQ Option Shuffling : No Is Question Mandatory : No Calculator : None Response Time : N.A Think Time : N.A Minimum Instruction Time : 0

Correct Marks : 5 Wrong Marks : 1

Question Key Details :

Key	Value
Comprehension	MCQ

The Deep web on internet which is not accessible by the regular search engines like Google Bing is known as:

1. Black web
2. Brown web
3. Dirty web
4. Dark web

Options :

485584146385. 1
485584146386. 2
485584146387. 3
485584146388. 4

Question Number : 212 Question Id : 48558436597 Question Type : MCQ Option Shuffling : No Is Question Mandatory : No Calculator : None Response Time : N.A Think Time : N.A Minimum Instruction Time : 0

Correct Marks : 5 Wrong Marks : 1

Question Key Details :

Key	Value
Comprehension	MCQ

ಅಂತರ್ಜಾಲದ ಮೇಲೆ ಆಳು ಜಾಲವನ್ನು (Deepweb) ಸಾಮಾನ್ಯ ಸರ್ಚ್ ಇಂಜಿನ್‌ಗಳಾದ ಗೂಗಲ್, ಬಿಂಗ್‌ಗಳಿಗೆ ಸಿಗದಿರುವುದನ್ನು ಏನೆನ್ನುತ್ತಾರೆ ಎಂದರೆ.

1. ಬ್ಲಾಕ್ ವೆಬ್
2. ಬ್ರೌನ್ ವೆಬ್
3. ಡರ್ಟಿ ವೆಬ್
4. ಡಾರ್ಕ್ ವೆಬ್

Options :

485584146385. 1
485584146386. 2
485584146387. 3
485584146388. 4

Question Number : 213 Question Id : 48558436598 Question Type : MCQ Option Shuffling : No Is Question Mandatory : No Calculator : None Response Time : N.A Think Time : N.A Minimum Instruction Time : 0

Correct Marks : 5 Wrong Marks : 1

Question Key Details :

Key	Value
Comprehension	MCQ

In order to foster scientific temper through the means of exciting educational experiences, a teacher can take her students to a:

1. Museum
2. Music program
3. Planetarium
4. Art gallery

Options :

485584146389. 1
485584146390. 2
485584146391. 3
485584146392. 4

Question Number : 213 Question Id : 48558436598 Question Type : MCQ Option Shuffling : No Is Question Mandatory : No Calculator : None Response Time : N.A Think Time : N.A Minimum Instruction Time : 0

Correct Marks : 5 Wrong Marks : 1

Question Key Details :

Key	Value
Comprehension	MCQ

ಉದ್ದೇಗಕಾರಕ ಶೈಕ್ಷಣಿಕ ಅನುಭವಗಳ ಮೂಲಕ ವೈಜ್ಞಾನಿಕ ಮನೋಭಾವವನ್ನು ಬೆಳೆಸಲು ಒಬ್ಬ ಶಿಕ್ಷಕಿಯು ತನ್ನ ವಿದ್ಯಾರ್ಥಿನಿಯರನ್ನು ಎಲ್ಲಿಗೆ ಕರೆದುಕೊಂಡು ಹೋಗಬಹುದೆಂದರೆ,

1. ಒಂದು ಮ್ಯೂಸಿಯಂಗೆ
2. ಒಂದು ಸಂಗೀತ ಕಾರ್ಯಕ್ರಮಕ್ಕೆ
3. ಒಂದು ಪ್ಲಾನೆಟೋರಿಯಂ
4. ಆರ್ಟ್ ಗ್ಯಾಲರಿ

Options :

485584146389. 1
485584146390. 2
485584146391. 3
485584146392. 4

Question Number : 214 Question Id : 48558436599 Question Type : MCQ Option Shuffling : No Is Question Mandatory : No Calculator : None Response Time : N.A Think Time : N.A Minimum Instruction Time : 0

Correct Marks : 5 Wrong Marks : 1

Question Key Details :

Key	Value
Comprehension	MCQ

Jantar Mantar is an assembly of stone-built astronomical instruments, designed to be used with naked eyes. A visit to Jantar Mantar can help students to learn how _____.

1. astronomy was a leisure activity of people in the past.
2. astronomy was practised in buildings made with red stones.
3. people measured time when there were no standard instruments to measure the passing of time.
4. people measured time in those civilizations in which stones were used to build everything.

Options :

485584146393. 1
485584146394. 2
485584146395. 3
485584146396. 4

Question Number : 214 Question Id : 48558436599 Question Type : MCQ Option Shuffling : No Is Question Mandatory : No Calculator : None Response Time : N.A Think Time : N.A Minimum Instruction Time : 0

Correct Marks : 5 Wrong Marks : 1

Question Key Details :

Key	Value
Comprehension	MCQ

ಜಂಟರ್ ಮಂಟರ್ ಒಂದು ಕಲ್ಲುಗಳಿಂದ ನಿರ್ಮಿತವಾದ ಸಮೂಹ ಖಗೋಳಶಾಸ್ತ್ರ ಸಾಧನವಾಗಿದ್ದು, ಬರಿಕಣ್ಣಿನಿಂದ ಬಳಸಲು ವಿನ್ಯಾಸ ಮಾಡಲಾಗಿದೆ. ಜಂಟರ್ ಮಂಟರ್ಗೆ ಒಂದು ಭೇಟಿಯು ವಿದ್ಯಾರ್ಥಿಗಳಿಗೆ ಹೇಗೆ ಸಹಾಯ ಮಾಡಬಹುದೆಂದರೆ:

1. ಖಗೋಳಶಾಸ್ತ್ರವು ಹಿಂದಿನ ಕಾಲದಲ್ಲಿ ಜನರ ಒಂದು ಬಿಡುವಿನ ಸಮಯದಲ್ಲಿನ ಚಟುವಟಿಕೆಯಾಗಿತ್ತು
2. ಖಗೋಳ ಶಾಸ್ತ್ರವನ್ನು ಕೆಂಪು ಕಲ್ಲುಗಳಿಂದ ನಿರ್ಮಿತವಾದ ಕಟ್ಟಡಗಳಲ್ಲಿ ಅಭ್ಯಸಿಸುತ್ತಿದ್ದರು
3. ಕಳೆದ ಸಮಯವನ್ನು ಅಳೆಯಲು ಯಾವುದೇ ಮಾನದಂಡ ಸಾಧನಗಳು ಇಲ್ಲದಿದ್ದಾಗ ಜನರು ಸಮಯವನ್ನು ಮಾಪನ ಮಾಡುತ್ತಿದ್ದರು
4. ಜನರು ಯಾವ ನಾಗರಿಕತೆಗಳಲ್ಲಿ ಎಲ್ಲವನ್ನೂ ನಿರ್ಮಿಸಲು ಕಲ್ಲುಗಳನ್ನು ಬಳಸುತ್ತಿದ್ದರೋ ಆ ಸಮಯವನ್ನು ಅಳೆಯುತ್ತಿದ್ದರು

Options :

485584146393. 1
485584146394. 2
485584146395. 3
485584146396. 4

Question Number : 215 Question Id : 48558436600 Question Type : MCQ Option Shuffling : No Is Question Mandatory : No Calculator : None Response Time : N.A Think Time : N.A Minimum Instruction Time : 0

Correct Marks : 5 Wrong Marks : 1

Question Key Details :

Key	Value
Comprehension	MCQ

The first country to have entered the Mars orbit in its first attempt is:

1. USA
2. China
3. India
4. Russia

Options :

485584146397. 1
485584146398. 2
485584146399. 3
485584146400. 4

Question Number : 215 Question Id : 48558436600 Question Type : MCQ Option Shuffling : No Is Question Mandatory : No Calculator : None Response Time : N.A Think Time : N.A Minimum Instruction Time : 0

Correct Marks : 5 Wrong Marks : 1

Question Key Details :

Key	Value
Comprehension	MCQ

ತನ್ನ ಪ್ರಥಮ ಪ್ರಯತ್ನದಲ್ಲೇ ಮಂಗಳನ ಕಕ್ಷೆಗೆ ಹೋದ ಮೊದಲ ದೇಶ ಯಾವುದೆಂದರೆ:

1. USA (ಅಮೆರಿಕ)
2. ಚೀನಾ
3. ಭಾರತ
4. ರಷ್ಯಾ

Options :

485584146397. 1
485584146398. 2
485584146399. 3
485584146400. 4

Question Number : 216 Question Id : 48558436601 Question Type : MCQ Option Shuffling : No Is Question Mandatory : No Calculator : None Response Time : N.A Think Time : N.A Minimum Instruction Time : 0

Correct Marks : 5 Wrong Marks : 1

Question Key Details :

Key	Value
Comprehension	MCQ

The project of 'NASA' targeting the landing of first woman/women astronaut/s on moon is known as:

1. MOM
2. ARTEMIS
3. MISMOON
4. Moon opposition

Options :

485584146401. 1
485584146402. 2
485584146403. 3
485584146404. 4

Question Number : 216 Question Id : 48558436601 Question Type : MCQ Option Shuffling : No Is Question Mandatory : No Calculator : None Response Time : N.A Think Time : N.A Minimum Instruction Time : 0

Correct Marks : 5 Wrong Marks : 1

Question Key Details :

Key	Value
Comprehension	MCQ

ಚಂದ್ರನ ಮೇಲೆ ಪ್ರಥಮ ಮಹಿಳೆ/ಮಹಿಳಾ ಬಾಹ್ಯಾಕಾಶ ಪ್ರಯಾಣಿಕೆಯನ್ನು ಇಳಿಸುವ ಗುರಿಯನ್ನು ಹೊಂದಿದ ನಾಸಾ (NASA)ದ ಯೋಜನೆಯನ್ನು ಏನೆಂದು ತಿಳಿಯಲಾಗಿದೆ ಎಂದರೆ:

1. MOM
2. ARTEMIS
3. MISMOON
4. Moon opposition

Options :

485584146401. 1
485584146402. 2
485584146403. 3
485584146404. 4

Question Number : 217 Question Id : 48558436602 Question Type : MCQ Option Shuffling : No Is Question Mandatory : No Calculator : None Response Time : N.A Think Time : N.A Minimum Instruction Time : 0

Correct Marks : 5 Wrong Marks : 1

Question Key Details :

Key	Value
Comprehension	MCQ

Which of the following is NOT true: The turning points of the graph of a function :

1. Represent local maxima and local minima
2. Represent Absolute maxima and Absolute minima
3. Represent point of inflexion
4. Represent neither local maxima nor local minima

Options :

485584146405. 1
485584146406. 2
485584146407. 3
485584146408. 4

Question Number : 217 Question Id : 48558436602 Question Type : MCQ Option Shuffling : No Is Question Mandatory : No Calculator : None Response Time : N.A Think Time : N.A Minimum Instruction Time : 0

Correct Marks : 5 Wrong Marks : 1

Question Key Details :

Key	Value
Comprehension	MCQ

ಒಂದು ತಿರುವು ಬಿಂದುಗಳ ನಕ್ಷಾ ಉತ್ಪನ್ನಕ್ಕೆ ಸಂಬಂಧಿಸಿದಂತೆ ಕೆಳಗಿನವುಗಳಲ್ಲಿ ಯಾವುದು ಸತ್ಯವಲ್ಲ?

1. ಸ್ಥಳೀಯ ಗರಿಷ್ಠ ಬೆಲೆ ಮತ್ತು ಸ್ಥಳೀಯ ಕನಿಷ್ಠ ಬೆಲೆಯನ್ನು ಪ್ರತಿನಿಧಿಸುವುದು
2. ಸಂಪೂರ್ಣ ಗರಿಷ್ಠ ಬೆಲೆ ಮತ್ತು ಸಂಪೂರ್ಣ ಕನಿಷ್ಠ ಬೆಲೆಯನ್ನು ಪ್ರತಿನಿಧಿಸುವುದು
3. ಗತಿ ಪರಿವರ್ತನಾ ಬಿಂದುವನ್ನು ಪ್ರತಿನಿಧಿಸುವುದು
4. ಸ್ಥಳೀಯ ಗರಿಷ್ಠ ಬೆಲೆ ಅಥವಾ ಸ್ಥಳೀಯ ಕನಿಷ್ಠ ಬೆಲೆ ಯಾವುದನ್ನೂ ಪ್ರತಿನಿಧಿಸುವುದಿಲ್ಲ

Options :

485584146405. 1
485584146406. 2
485584146407. 3
485584146408. 4

Question Number : 218 Question Id : 48558436603 Question Type : MCQ Option Shuffling : No Is Question Mandatory : No Calculator : None Response Time : N.A Think Time : N.A Minimum Instruction Time : 0

Correct Marks : 5 Wrong Marks : 1

Question Key Details :

Key	Value
Comprehension	MCQ

Any teaching activity which puts before the students the real problems, that they have to solve for themselves, problems for which there are no easy solutions in any book _____.

1. brings them close to guide books
2. makes them skilled
3. crafts their activity
4. sharpens their intelligence

Options :

485584146409. 1
485584146410. 2
485584146411. 3
485584146412. 4

Question Number : 218 Question Id : 48558436603 Question Type : MCQ Option Shuffling : No Is Question Mandatory : No Calculator : None Response Time : N.A Think Time : N.A Minimum Instruction Time : 0

Correct Marks : 5 Wrong Marks : 1

Question Key Details :

Key	Value
Comprehension	MCQ

ವಿದ್ಯಾರ್ಥಿಗಳ ಮುಂದೆ ಇಡುವ ಯಾವುದೇ ನೈಜ ಸಮಸ್ಯೆಗಳ ಬೋಧನಾ ಚಟುವಟಿಕೆಯು ಅವನ್ನು ಅವರೇ ಪರಿಹರಿಸಬೇಕು, ಯಾವುದೇ ಪುಸ್ತಕದಲ್ಲಿ ಸಮಸ್ಯೆಗಳಿಗೆ ಸುಲಭ ಪರಿಹಾರ ಇಲ್ಲದಿರುವುದನ್ನು _____.

1. ಅವರನ್ನು ಮಾರ್ಗದರ್ಶಿ ಪುಸ್ತಕದ ಹತ್ತಿರ ಕರೆದುಕೊಂಡು ಬರುತ್ತದೆ.
2. ಅವರನ್ನು ಕೌಶಲಯುಕ್ತರನ್ನಾಗಿ ಮಾಡುತ್ತದೆ.
3. ಅವರ ಚಟುವಟಿಕೆಯನ್ನು ಕುಶಲ ಮಾಡುತ್ತದೆ
4. ಅವರ ಬುದ್ಧಿಯನ್ನು ತೀಕ್ಷ್ಣಗೊಳಿಸುತ್ತದೆ

Options :

485584146409. 1
485584146410. 2
485584146411. 3
485584146412. 4

Question Number : 219 Question Id : 48558436604 Question Type : MCQ Option Shuffling : No Is Question Mandatory : No Calculator : None Response Time : N.A Think Time : N.A Minimum Instruction Time : 0

Correct Marks : 5 Wrong Marks : 1

Question Key Details :

Key	Value
Comprehension	MCQ

A mathematics teacher told the students that her laptop and phone can run out of charge independently of each other. The probability that her phone is out of charge is 0.2 and the probability that they are both out of charge is 0.06. Find the probability that her laptop is out of charge.

1. 0.86
2. 0.4
3. 0.3
4. 0.14

Options :

485584146413. 1
485584146414. 2
485584146415. 3
485584146416. 4

Question Number : 219 Question Id : 48558436604 Question Type : MCQ Option Shuffling : No Is Question Mandatory : No Calculator : None Response Time : N.A Think Time : N.A Minimum Instruction Time : 0

Correct Marks : 5 Wrong Marks : 1

Question Key Details :

Key	Value
Comprehension	MCQ

ಒಬ್ಬ ಗಣಿತ ಶಿಕ್ಷಕಿಯು ವಿದ್ಯಾರ್ಥಿಗಳಿಗೆ ತನ್ನ ಲ್ಯಾಪ್‌ಟಾಪ್ ಮತ್ತು ಫೋನ್ ಒಂದಕ್ಕೊಂದು ಸ್ವತಂತ್ರವಾಗಿ ಚಾರ್ಜ್ ಖಾಲಿಯಾಗುತ್ತದೆ ಎಂದು ಹೇಳಿದಳು. ಅವಳ ಫೋನ್ ಚಾರ್ಜ್ ಖಾಲಿಯಾಗುವ ಸಂಭವನೀಯತೆಯು 0.2 ಮತ್ತು ಎರಡರ ಚಾರ್ಜ್ ಖಾಲಿಯಾಗುವ ಸಂಭವನೀಯತೆಯು 0.06. ಅವಳ ಲ್ಯಾಪ್‌ಟಾಪ್ ಚಾರ್ಜ್ ಖಾಲಿಯಾಗುವ ಸಂಭವನೀಯತೆಯನ್ನು ಕಂಡುಹಿಡಿಯಿರಿ.

1. 0.86
2. 0.4
3. 0.3
4. 0.14

Options :

485584146413. 1
485584146414. 2
485584146415. 3
485584146416. 4

Question Number : 220 Question Id : 48558436605 Question Type : MCQ Option Shuffling : No Is Question Mandatory : No Calculator : None Response Time : N.A Think Time : N.A Minimum Instruction Time : 0

Correct Marks : 5 Wrong Marks : 1

Question Key Details :

Key	Value
Comprehension	MCQ

By explaining the theory of probability a teacher told that "For a particular E_i we can use a special formula."

Which theorem is he/she teaching?

1. Conditional Probability Theorem
2. Multiplication Theorem
3. Baye's Theorem
4. Total Probability Theorem

Options :

485584146417. 1
485584146418. 2
485584146419. 3
485584146420. 4

Question Number : 220 Question Id : 48558436605 Question Type : MCQ Option Shuffling : No Is Question Mandatory : No Calculator : None Response Time : N.A Think Time : N.A Minimum Instruction Time : 0

Correct Marks : 5 Wrong Marks : 1

Question Key Details :

Key	Value
Comprehension	MCQ

ಸಂಭವನೀಯತೆಯ ಸಿದ್ಧಾಂತವನ್ನು ವಿವರಿಸುವಾಗ ಒಬ್ಬ ಶಿಕ್ಷಕನು "ಒಂದು ನಿರ್ದಿಷ್ಟ E_i ಗೆ ನಾವು ವಿಶೇಷ ಸೂತ್ರವನ್ನು ಬಳಸಬಹುದು" ಎಂದು ಹೇಳಿದನು.

ಅವನು/ಅವಳು ಯಾವ ಪ್ರಮೇಯವನ್ನು ಬೋಧಿಸುತ್ತಿದ್ದನು/ಳು?

1. ನಿಬಂಧನಾ ಸಂಭವನೀಯತೆ ಪ್ರಮೇಯ
2. ಗುಣಾಕಾರ ಪ್ರಮೇಯ
3. ಬೇಯಾಸ ಪ್ರಮೇಯ
4. ಒಟ್ಟು ಸಂಭವನೀಯತೆ ಪ್ರಮೇಯ

Options :

485584146417. 1
485584146418. 2
485584146419. 3
485584146420. 4

Question Number : 221 Question Id : 48558436606 Question Type : MCQ Option Shuffling : No Is Question Mandatory : No Calculator : None Response Time : N.A Think Time : N.A Minimum Instruction Time : 0

Correct Marks : 5 Wrong Marks : 1

Question Key Details :

Key	Value
Comprehension	MCQ

If a child draws a tree by observing the trees in her surroundings and her teacher introduced scale drawings to her, the experience can help her to develop a _____.

1. sense of aesthetics
2. sense of proportion
3. sense of perspective
4. sense of transference

Options :

485584146421. 1
485584146422. 2
485584146423. 3
485584146424. 4

Question Number : 221 Question Id : 48558436606 Question Type : MCQ Option Shuffling : No Is Question Mandatory : No Calculator : None Response Time : N.A Think Time : N.A Minimum Instruction Time : 0

Correct Marks : 5 Wrong Marks : 1

Question Key Details :

Key	Value
Comprehension	MCQ

ಒಬ್ಬ ಮಗುವು ಅವಳ ಸುತ್ತಮುತ್ತಲಿನ ಮರಗಳನ್ನು ವೀಕ್ಷಿಸಿ ಒಂದು ಮರದ ಚಿತ್ರವನ್ನು ಬರೆದರೆ ಮತ್ತು ಅವಳ ಶಿಕ್ಷಕಿಯು ಅವಳಿಗೆ ಅಳತೆಪಟ್ಟಿ ಚಿತ್ರಕಲೆಗಳಿಗೆ ಪರಿಚಯಿಸಿದರೆ, ಈ ಅನುಭವವು ಅವಳಿಗೆ _____ ಅನ್ನು ಬೆಳೆಸಲು ಸಹಾಯ ಮಾಡುತ್ತದೆ.

1. ಸೌಂದರ್ಯ ಪ್ರಜ್ಞೆ
2. ಅನುಪಾತ ಪ್ರಜ್ಞೆ
3. ದೃಶ್ಯ ಪ್ರಜ್ಞೆ
4. ಬದಲಾವಣೆ ಪ್ರಜ್ಞೆ

Options :

485584146421. 1
485584146422. 2
485584146423. 3
485584146424. 4

Question Number : 222 Question Id : 48558436607 Question Type : MCQ Option Shuffling : No Is Question Mandatory : No Calculator : None Response Time : N.A Think Time : N.A Minimum Instruction Time : 0

Correct Marks : 5 Wrong Marks : 1

Question Key Details :

Key	Value
Comprehension	MCQ

A lot of school children find mathematics very difficult and social sciences easy. One of the reasons for their perceptiveness is that

1. mathematics demands expression
2. mathematics is not common knowledge
3. mathematics demands precision
4. mathematics involves concrete images

Options :

485584146425. 1
485584146426. 2
485584146427. 3
485584146428. 4

Question Number : 222 Question Id : 48558436607 Question Type : MCQ Option Shuffling : No Is Question Mandatory : No Calculator : None Response Time : N.A Think Time : N.A Minimum Instruction Time : 0

Correct Marks : 5 Wrong Marks : 1

Question Key Details :

Key	Value
Comprehension	MCQ

ಬಹಳ ಶಾಲಾ ಮಕ್ಕಳು ಗಣಿತವು ಬಹಳ ಕಷ್ಟವೆಂದುಕೊಳ್ಳುತ್ತಾರೆ. ಮತ್ತು ಸಮಯ ವಿಜ್ಞಾನವು ಸುಲಭ ಎಂದುಕೊಳ್ಳುತ್ತಾರೆ. ಅವರ ಭಾವನೆಗಿರುವ ಒಂದು ಕಾರಣವೆಂದರೆ,

1. ಗಣಿತವು ವ್ಯಕ್ತಪಡಿಸುವಿಕೆಯನ್ನು ಅಪೇಕ್ಷಿಸುತ್ತದೆ
2. ಗಣಿತವು ಸಾಮಾನ್ಯ ಜ್ಞಾನವಲ್ಲ
3. ಗಣಿತವು ನಿಖರತೆಯನ್ನು ಅಪೇಕ್ಷಿಸುತ್ತದೆ
4. ಗಣಿತವು ಸಮಗ್ರ ಚಿತ್ರಗಳನ್ನೊಳಗೊಂಡಿದೆ

Options :

485584146425. 1
485584146426. 2
485584146427. 3
485584146428. 4

Question Number : 223 Question Id : 48558436608 Question Type : MCQ Option Shuffling : No Is Question Mandatory : No Calculator : None Response Time : N.A Think Time : N.A Minimum Instruction Time : 0

Correct Marks : 5 Wrong Marks : 1

Question Key Details :

Key	Value
Comprehension	MCQ

National Gallery of Modern Art (NGMA) is situated in

1. London
2. California
3. Kolkata
4. New Delhi

Options :

485584146429. 1
485584146430. 2
485584146431. 3
485584146432. 4

Question Number : 223 Question Id : 48558436608 Question Type : MCQ Option Shuffling : No Is Question Mandatory : No Calculator : None Response Time : N.A Think Time : N.A Minimum Instruction Time : 0

Correct Marks : 5 Wrong Marks : 1

Question Key Details :

Key	Value
Comprehension	MCQ

ರಾಷ್ಟ್ರೀಯ ಆಧುನಿಕ ಕಲಾ ಗ್ಯಾಲರಿ (NGMA) ಇರುವುದು _____ ಇಲ್ಲಿ.

1. ಲಂಡನ್
2. ಕ್ಯಾಲಿಫೋರ್ನಿಯಾ
3. ಕೊಲ್ಕತ್ತಾ
4. ನವದೆಹಲಿ

Options :

485584146429. 1
485584146430. 2
485584146431. 3
485584146432. 4

Question Number : 224 Question Id : 48558436609 Question Type : MCQ Option Shuffling : No Is Question Mandatory : No Calculator : None Response Time : N.A Think Time : N.A Minimum Instruction Time : 0

Correct Marks : 5 Wrong Marks : 1

Question Key Details :

Key	Value
Comprehension	MCQ

Which School of Art was also known as Graeco Buddhist School of Art?

1. Amravati School of Art
2. Mathura School of Art
3. Gandhara School of Art
4. Bengal School of Art

Options :

485584146433. 1
485584146434. 2
485584146435. 3
485584146436. 4

Question Number : 224 Question Id : 48558436609 Question Type : MCQ Option Shuffling : No Is Question Mandatory : No Calculator : None Response Time : N.A Think Time : N.A Minimum Instruction Time : 0

Correct Marks : 5 Wrong Marks : 1

Question Key Details :

Key	Value
Comprehension	MCQ

ಗ್ರೀಕೂ ಬುದ್ಧಿಸ್ಥ ಕಲಾ ಶಾಲೆಯೆಂದು ಸಹ ಯಾವ ಕಲಾ ಶಾಲೆಯನ್ನು ತಿಳಿಯಲಾಗಿದೆ?

1. ಅಮರಾವತಿ ಕಲಾಶಾಲೆ
2. ಮಥುರಾ ಕಲಾಶಾಲೆ
3. ಗಾಂಧಾರ ಕಲಾಶಾಲೆ
4. ಬಂಗಾಳ ಕಲಾಶಾಲೆ

Options :

485584146433. 1
485584146434. 2
485584146435. 3
485584146436. 4

Question Number : 225 Question Id : 48558436610 Question Type : MCQ Option Shuffling : No Is Question Mandatory : No Calculator : None Response Time : N.A Think Time : N.A Minimum Instruction Time : 0

Correct Marks : 5 Wrong Marks : 1

Question Key Details :

Key	Value
Comprehension	MCQ

What was the profession of Partha Mitter?

1. Painter
2. Sculptor
3. Art Historian
4. Architect

Options :

485584146437. 1
485584146438. 2
485584146439. 3
485584146440. 4

Question Number : 225 Question Id : 48558436610 Question Type : MCQ Option Shuffling : No Is Question Mandatory : No Calculator : None Response Time : N.A Think Time : N.A Minimum Instruction Time : 0

Correct Marks : 5 Wrong Marks : 1

Question Key Details :

Key	Value
Comprehension	MCQ

ಪಾರ್ಥ ಮಿಟ್ಟರಾನ್ ವೃತ್ತಿಯೇನಾಗಿತ್ತು?

1. ವರ್ಣಕಾರ
2. ಶಿಲ್ಪಿ
3. ಕಲಾ ಇತಿಹಾಸಕಾರ
4. ವಾಸ್ತುಶಿಲ್ಪಿ

Options :

485584146437. 1
485584146438. 2
485584146439. 3
485584146440. 4

Question Number : 226 Question Id : 48558436611 Question Type : MCQ Option Shuffling : No Is Question Mandatory : No Calculator : None Response Time : N.A Think Time : N.A Minimum Instruction Time : 0

Correct Marks : 5 Wrong Marks : 1

Question Key Details :

Key	Value
Comprehension	MCQ

'Contemporary Art in India : A perspective' is a book written by

1. Pran Nath Mago
2. Jasleen Dhamija
3. K. R. Srinivasan
4. Devi Prasad

Options :

485584146441. 1
485584146442. 2
485584146443. 3
485584146444. 4

Question Number : 226 Question Id : 48558436611 Question Type : MCQ Option Shuffling : No Is Question Mandatory : No Calculator : None Response Time : N.A Think Time : N.A Minimum Instruction Time : 0

Correct Marks : 5 Wrong Marks : 1

Question Key Details :

Key	Value
Comprehension	MCQ

'ಭಾರತದಲ್ಲಿ ಸಮಕಾಲೀನ ಕಲೆ: ಒಂದು ದೃಶ್ಯ' ಎಂಬ ಪುಸ್ತಕ ಬರೆಯಲ್ಪಟ್ಟಿದ್ದು ಇವರಿಂದ:

1. ಪ್ರಾಣನಾಥ ಮಾಗೊ
2. ಜಸ್ಲೀನ್
3. ಕೆ.ಆರ್. ಶ್ರೀನಿವಾಸನ್
4. ದೇವಿಪ್ರಸಾದ್

Options :

485584146441. 1
485584146442. 2
485584146443. 3
485584146444. 4

Question Number : 227 Question Id : 48558436612 Question Type : MCQ Option Shuffling : No Is Question Mandatory : No Calculator : None Response Time : N.A Think Time : N.A Minimum Instruction Time : 0

Correct Marks : 5 Wrong Marks : 1

Question Key Details :

Key	Value
Comprehension	MCQ

A technique of portraying an object to be closer than it actually is, or having less depth or distance, is called

1. Depth of field
2. Foreshortening
3. Focusing
4. Illustration

Options :

485584146445. 1
485584146446. 2
485584146447. 3
485584146448. 4

Question Number : 227 Question Id : 48558436612 Question Type : MCQ Option Shuffling : No Is Question Mandatory : No Calculator : None Response Time : N.A Think Time : N.A Minimum Instruction Time : 0

Correct Marks : 5 Wrong Marks : 1

Question Key Details :

Key	Value
Comprehension	MCQ

ಒಂದು ವಸ್ತುವನ್ನು ನೈಜಕ್ಕಿಂತ ಹತ್ತಿರವಿಡೆ ಅಥವಾ ಕಡಿಮೆ ಆಳ ಅಥವಾ ದೂರವಿಡೆ ಎಂದು ಬಿಂಬಿಸುವ ತಂತ್ರವನ್ನು ಏನೆಂದು ಕರೆಯುತ್ತಾರೆ ಎಂದರೆ _____.

1. ಕ್ಷೇತ್ರದ ಆಳ
2. ಫೋರ್‌ಶಾರ್ಟೆನಿಂಗ್
3. ಕೇಂದ್ರೀಕರಿಸುವುದು
4. ರೇಖಾಚಿತ್ರ

Options :

485584146445. 1
485584146446. 2
485584146447. 3
485584146448. 4

Question Number : 228 Question Id : 48558436613 Question Type : MCQ Option Shuffling : No Is Question Mandatory : No Calculator : None Response Time : N.A Think Time : N.A Minimum Instruction Time : 0

Correct Marks : 5 Wrong Marks : 1

Question Key Details :

Key	Value
Comprehension	MCQ

The artwork 'Santhal Family' made by Ramkinker Vajjis is which medium/ form

1. Oil Painting
2. Mural
3. Sculpture
4. Monograph

Options :

485584146449. 1
485584146450. 2
485584146451. 3
485584146452. 4

Question Number : 228 Question Id : 48558436613 Question Type : MCQ Option Shuffling : No Is Question Mandatory : No Calculator : None Response Time : N.A Think Time : N.A Minimum Instruction Time : 0

Correct Marks : 5 Wrong Marks : 1

Question Key Details :

Key	Value
Comprehension	MCQ

ರಾಮಕಿಂಕರ್ ವೈಜಿಸ್‌ರವರು 'ಸಾಂಥಲ್ ಫ್ಯಾಮಿಲಿ' ಎಂಬ ಕಲಾಕೃತಿಯನ್ನು ರಚಿಸಿದ್ದು ಯಾವ ಮಾಧ್ಯಮ ರೂಪದಲ್ಲಿ?

1. ತೈಲ ಚಿತ್ರಕಲೆ
2. ಭಿತ್ತಿ ಚಿತ್ರಕಲೆ
3. ಶಿಲ್ಪಕಲೆ
4. ಮೊನೊಗ್ರಾಫ್

Options :

485584146449. 1
485584146450. 2
485584146451. 3
485584146452. 4

Question Number : 229 Question Id : 48558436614 Question Type : MCQ Option Shuffling : No Is Question Mandatory : No Calculator : None Response Time : N.A Think Time : N.A Minimum Instruction Time : 0

Correct Marks : 5 Wrong Marks : 1

Question Key Details :

Key	Value
Comprehension	MCQ

Match List I with List II

LIST I		LIST II	
A.	Intrusive igneous rock	I.	Slate
B.	Extrusive igneous rock	II.	Basalt
C.	Sedimentary rock	III.	Granite
D.	Metamorphic rock	IV.	Lime stone

Choose the correct answer from the options given below:

1. A-III, B-II, C-IV, D-I
2. A-I, B-II, C-III, D-IV
3. A-IV, B-III, C-II, D-I
4. A-II, B-III, C-I, D-IV

Options :

485584146453. 1
485584146454. 2
485584146455. 3
485584146456. 4

Question Number : 229 Question Id : 48558436614 Question Type : MCQ Option Shuffling : No Is Question Mandatory : No Calculator : None Response Time : N.A Think Time : N.A Minimum Instruction Time : 0

Correct Marks : 5 Wrong Marks : 1

Question Key Details :

Key	Value
Comprehension	MCQ

ಪಟ್ಟಿ - I ಅನ್ನು ಪಟ್ಟಿ - IIರ ಜೊತೆ ಹೊಂದಿಸಿ.

ಪಟ್ಟಿ - I		ಪಟ್ಟಿ - II	
A.	ಅಂತಸ್ಪರ್ಶ ಇಗ್ನಿಯಸ್ ಶಿಲೆ	I.	ಸ್ಲೇಟ್
B.	ಬಾಹ್ಯಸ್ಪರ್ಶ ಇಗ್ನಿಯಸ್ ಶಿಲೆ	II.	ಬಸಾಲ್ಟ್
C.	ಪವರ ಶಿಲೆ	III.	ಗ್ರಾನೈಟ್
D.	ರೂಪಾಂತರ ಶಿಲೆ	IV.	ಸುಣ್ಣದ ಕಲ್ಲು

ಈ ಕೆಳಗಿನ ಆಯ್ಕೆಗಳಿಂದ ಸರಿಯಾದ ಉತ್ತರವನ್ನು ಆರಿಸಿ:

1. A-III, B-II, C-IV, D-I
2. A-I, B-II, C-III, D-IV
3. A-IV, B-III, C-II, D-I
4. A-II, B-III, C-I, D-IV

Options :

485584146453. 1
485584146454. 2
485584146455. 3

485584146456. 4

Question Number : 230 Question Id : 48558436615 Question Type : MCQ Option Shuffling : No Is Question Mandatory : No Calculator : None Response Time : N.A Think Time : N.A Minimum Instruction Time : 0

Correct Marks : 5 Wrong Marks : 1

Question Key Details :

Key	Value
Comprehension	MCQ

The content of teaching social sciences should aim at raising students' awareness through

1. questioning of familiar social reality
2. enacting of familiar social reality
3. developing a neutral perspective on society
4. transmitting an idea of society

Options :

485584146457. 1
485584146458. 2
485584146459. 3
485584146460. 4

Question Number : 230 Question Id : 48558436615 Question Type : MCQ Option Shuffling : No Is Question Mandatory : No Calculator : None Response Time : N.A Think Time : N.A Minimum Instruction Time : 0

Correct Marks : 5 Wrong Marks : 1

Question Key Details :

Key	Value
Comprehension	MCQ

ಸಮಾಜ ವಿಜ್ಞಾನ ಬೋಧನಾ ವಿಷಯವು ವಿದ್ಯಾರ್ಥಿಗಳ ಜಾಗೃತಿಯನ್ನು _____ ರ ಮೂಲಕ ಗುರಿ ಮಾಡಿ ಬೆಳೆಸಬೇಕು.

1. ಸಾಮಾನ್ಯ ಸಾಮಾಜಿಕ ವಾಸ್ತವಿಕೆಯನ್ನು ಪ್ರಶ್ನಿಸುವ
2. ಸಾಮಾನ್ಯ ಸಾಮಾಜಿಕ ವಾಸ್ತವಿಕೆಯನ್ನು ರೂಪಿಸುವ
3. ಒಂದು ಸಮಾಜದ ಮೇಲೆ ತಟಸ್ಥ ನೋಟವನ್ನು ಬೆಳೆಸುವುದರ
4. ಸಮಾಜದ ಒಂದು ಸಲಹೆಯೆಂದು ಪ್ರಸರಣ

Options :

485584146457. 1
485584146458. 2
485584146459. 3
485584146460. 4

Question Number : 231 Question Id : 48558436616 Question Type : MCQ Option Shuffling : No Is Question Mandatory : No Calculator : None Response Time : N.A Think Time : N.A Minimum Instruction Time : 0

Correct Marks : 5 Wrong Marks : 1

Question Key Details :

Key	Value
Comprehension	MCQ

Who wrote the book "History of British India" ?

1. James Mill
2. James Raimil
3. Warren Hastings
4. Cornwallis

Options :

485584146461. 1
485584146462. 2
485584146463. 3
485584146464. 4

Question Number : 231 Question Id : 48558436616 Question Type : MCQ Option Shuffling : No Is Question Mandatory : No Calculator : None Response Time : N.A Think Time : N.A Minimum Instruction Time : 0

Correct Marks : 5 Wrong Marks : 1

Question Key Details :

Key	Value
Comprehension	MCQ

"ಹಿಸ್ಟರಿ ಆಫ್ ಬ್ರಿಟಿಷ್ ಇಂಡಿಯಾ" ಎಂಬ ಪುಸ್ತಕವನ್ನು ಬರೆದವರು ಯಾರು?

1. ಜೇಮ್ಸ್ ಮಿಲ್
2. ಜೇಮ್ಸ್ ರೈನಿಲ್
3. ವಾರೆನ್ ಹೇಸ್ಟಿಂಗ್ಸ್
4. ಕಾರ್ನಾಲ್‌ವಾಲ್‌ಸಿಸ್

Options :

485584146461. 1
485584146462. 2
485584146463. 3
485584146464. 4

Question Number : 232 Question Id : 48558436617 Question Type : MCQ Option Shuffling : No Is Question Mandatory : No Calculator : None Response Time : N.A Think Time : N.A Minimum Instruction Time : 0

Correct Marks : 5 Wrong Marks : 1

Question Key Details :

Key	Value
Comprehension	MCQ

The school level social sciences encompass _____ concerns of society and include a wide range of content drawn from various disciplines.

1. unitary
2. overarching
3. diverse
4. sweeping

Options :

485584146465. 1
485584146466. 2
485584146467. 3
485584146468. 4

Question Number : 232 Question Id : 48558436617 Question Type : MCQ Option Shuffling : No Is Question Mandatory : No Calculator : None Response Time : N.A Think Time : N.A Minimum Instruction Time : 0

Correct Marks : 5 Wrong Marks : 1

Question Key Details :

Key	Value
Comprehension	MCQ

ಶಾಲಾ ಮಟ್ಟದ ಸಮಾಜ ವಿಜ್ಞಾನವು ಒಳಗೊಂಡಿರುವುದು _____ ಸಮಾಜದ ಕಾಳಜಿಗಳು ಮತ್ತು ವಿವಿಧ ಕ್ಷೇತ್ರಗಳಿಂದ ತಂದ ವಿಶಾಲ ಶೈಲಿಯ ವಿಷಯಗಳು

1. ಏಕಾತ್ಮಕ
2. ಓವರ್ ಆರ್ಚಿಂಗ್ (overarching)
3. ವೈವಿಧ್ಯ
4. ಸ್ವೀಪಿಂಗ್ (sweeping)

Options :

485584146465. 1
485584146466. 2
485584146467. 3
485584146468. 4

Question Number : 233 Question Id : 48558436618 Question Type : MCQ Option Shuffling : No Is Question Mandatory : No Calculator : None Response Time : N.A Think Time : N.A Minimum Instruction Time : 0

Correct Marks : 5 Wrong Marks : 1

Question Key Details :

Key	Value
Comprehension	MCQ

Which of the following subjects has replaced 'civics' in the school syllabus?

1. Civilization
2. Social and Political life
3. Economic and Social Life
4. Nationalism

Options :

485584146469. 1
485584146470. 2
485584146471. 3
485584146472. 4

Question Number : 233 Question Id : 48558436618 Question Type : MCQ Option Shuffling : No Is Question Mandatory : No Calculator : None Response Time : N.A Think Time : N.A Minimum Instruction Time : 0

Correct Marks : 5 Wrong Marks : 1

Question Key Details :

Key	Value
Comprehension	MCQ

ಕೆಳಗಿನ ಯಾವ ವಿಷಯವು ಶಾಲಾ ಪಠ್ಯ ವಸ್ತುವಿನಲ್ಲಿ 'ಪೌರನೀತಿ'ಯನ್ನು ಬದಲಾಯಿಸಿತು?

1. ನಾಗರಿಕತೆ
2. ಸಾಮಾಜಿಕ ಮತ್ತು ರಾಜಕೀಯ ಜೀವನ
3. ಆರ್ಥಿಕ ಮತ್ತು ಸಾಮಾಜಿಕ ಜೀವನ
4. ರಾಷ್ಟ್ರೀಯತೆ

Options :

485584146469. 1
485584146470. 2
485584146471. 3
485584146472. 4

Question Number : 234 Question Id : 48558436619 Question Type : MCQ Option Shuffling : No Is Question Mandatory : No Calculator : None Response Time : N.A Think Time : N.A Minimum Instruction Time : 0

Correct Marks : 5 Wrong Marks : 1

Question Key Details :

Key	Value
Comprehension	MCQ

Today, if a teacher wants to teach the importance of good deeds and practicing non-violence, she can use the following as a resource:

1. Ambedkar's writings
2. Jaina teachings
3. Puranic Literature
4. Akbarnama

Options :

485584146473. 1
485584146474. 2
485584146475. 3
485584146476. 4

Question Number : 234 Question Id : 48558436619 Question Type : MCQ Option Shuffling : No Is Question Mandatory : No Calculator : None Response Time : N.A Think Time : N.A Minimum Instruction Time : 0

Correct Marks : 5 Wrong Marks : 1

Question Key Details :

Key	Value
Comprehension	MCQ

ಇವತ್ತು ಒಬ್ಬ ಶಿಕ್ಷಕಿ, ಒಳ್ಳೆಯ ಕರ್ಮ ಮತ್ತು ಅಹಿಂಸೆ ಅಚರಣೆಯ ಮಹತ್ವವನ್ನು ಬೋಧಿಸಲು ಬಯಸಿದರೆ, ಅವಳು ಕೆಳಗಿನ ಯಾವ ಒಂದು ಸಂಪನ್ಮೂಲವನ್ನು ಬಳಸಬಹುದೆಂದರೆ:

1. ಅಂಬೇಡ್ಕರ್ ಬರಹಗಳು
2. ಜೈನ ಬರಹಗಳು
3. ಪುರಾಣ ಸಾಹಿತ್ಯ
4. ಅಕ್ಬರ್‌ನಾಮ

Options :

485584146473. 1
485584146474. 2
485584146475. 3
485584146476. 4

Question Number : 235 Question Id : 48558436620 Question Type : MCQ Option Shuffling : No Is Question Mandatory : No Calculator : None Response Time : N.A Think Time : N.A Minimum Instruction Time : 0

Correct Marks : 5 Wrong Marks : 1

Question Key Details :

Key	Value
Comprehension	MCQ

Literary devices such as simile and metaphor are used in which of the following?

1. Prose
2. Poetry
3. Grammar
4. Drama

Options :

485584146477. 1
485584146478. 2
485584146479. 3
485584146480. 4

Question Number : 235 Question Id : 48558436620 Question Type : MCQ Option Shuffling : No Is Question Mandatory : No Calculator : None Response Time : N.A Think Time : N.A Minimum Instruction Time : 0

Correct Marks : 5 Wrong Marks : 1

Question Key Details :

Key	Value
Comprehension	MCQ

ಸಾಹಿತ್ಯ ಸಾಧನಗಳಾದ ಹೋಲಿಕೆ (Simile) ಮತ್ತು ರೂಪಕ (Metaphor) ಗಳು ಈ ಕೆಳಗಿನ ಯಾವುದರಲ್ಲಿ ಬಳಸುವರು?

1. ಗದ್ಯ
2. ಪದ್ಯ
3. ವ್ಯಾಕರಣ
4. ನಾಟಕ

Options :

485584146477. 1
485584146478. 2
485584146479. 3
485584146480. 4

Question Number : 236 Question Id : 48558436621 Question Type : MCQ Option Shuffling : No Is Question Mandatory : No Calculator : None Response Time : N.A Think Time : N.A Minimum Instruction Time : 0

Correct Marks : 5 Wrong Marks : 1

Question Key Details :

Key	Value
Comprehension	MCQ

'Man is a born child, his power is the power of growth.'

What is the meaning of this sentence?

1. Humans should remain stagnant
2. Humans should refrain from adding to sources of knowledge
3. Intellectual and cognitive regression are important characteristics of humans
4. Intellectual and cognitive development are important characteristics of human.

Options :

485584146481. 1
485584146482. 2
485584146483. 3
485584146484. 4

Question Number : 236 Question Id : 48558436621 Question Type : MCQ Option Shuffling : No Is Question Mandatory : No Calculator : None Response Time : N.A Think Time : N.A Minimum Instruction Time : 0

Correct Marks : 5 Wrong Marks : 1

Question Key Details :

Key	Value
Comprehension	MCQ

"ಮಾನವ ಒಂದು ಜನ್ಮತಾಳಿದ ಶಿಶು, ಅವನ ಶಕ್ತಿಯ ಬೆಳವಣಿಗೆಯ ಶಕ್ತಿ".

ಈ ವಾಕ್ಯದ ಅರ್ಥವೇನು?

1. ಮಾನವರು ಜಡವಾಗಿರಬೇಕು
2. ಮಾನವರು ಜ್ಞಾನದ ಮೂಲಗಳಿಗೆ ಸೇರುವುದನ್ನು ಹಿಂಜರಿಯಬೇಕು
3. ಬೌದ್ಧಿಕ ಮತ್ತು ಜ್ಞಾನ ಪ್ರತಿಗಮನಗಳು ಮಾನವರ ಮುಖ್ಯ ಲಕ್ಷಣಗಳು
4. ಬೌದ್ಧಿಕ ಮತ್ತು ಜ್ಞಾನದ ಬೆಳವಣಿಗೆ ಮಾನವರ ಮುಖ್ಯ ಲಕ್ಷಣಗಳು

Options :

485584146481. 1
485584146482. 2
485584146483. 3
485584146484. 4

Question Number : 237 Question Id : 48558436622 Question Type : MCQ Option Shuffling : No Is Question Mandatory : No Calculator : None Response Time : N.A Think Time : N.A Minimum Instruction Time : 0

Correct Marks : 5 Wrong Marks : 1

Question Key Details :

Key	Value
Comprehension	MCQ

The Booker Prize 2022 was awarded to which Indian novel?

1. The Alchemist
2. A Tomb of Sand
3. Train to Pakistan
4. One Hundred Years of Solitude

Options :

485584146485. 1
485584146486. 2
485584146487. 3
485584146488. 4

Question Number : 237 Question Id : 48558436622 Question Type : MCQ Option Shuffling : No Is Question Mandatory : No Calculator : None Response Time : N.A Think Time : N.A Minimum Instruction Time : 0

Correct Marks : 5 Wrong Marks : 1

Question Key Details :

Key	Value
Comprehension	MCQ

2022ರ ಬುಕರ್ ಪ್ರೈಜ್ ಅನ್ನು ಯಾವ ಭಾರತೀಯ ಕಾದಂಬರಿಗೆ ನೀಡಲಾಯಿತು?

1. ದಿ ಆಲ್ಕೆಮಿಸ್ಟ್
2. ಎ ಟಾಂಬ್ ಆಫ್ ಸ್ಯಾಂಡ್
3. ಟ್ರೈನ್ ಟು ಪಾಕಿಸ್ತಾನ್
4. ಒನ್ ಹಂಡ್ರೆಡ್ ಇಯರ್ಸ್ ಆಫ್ ಸೊಲಿಟ್ಯೂಡ್

Options :

485584146485. 1
485584146486. 2
485584146487. 3
485584146488. 4

Question Number : 238 Question Id : 48558436623 Question Type : MCQ Option Shuffling : No Is Question Mandatory : No Calculator : None Response Time : N.A Think Time : N.A Minimum Instruction Time : 0

Correct Marks : 5 Wrong Marks : 1

Question Key Details :

Key	Value
Comprehension	MCQ

What are the challenges faced by students while learning English in India?

- A. Lack of trained teachers
- B. Lack of an enabling language environment
- C. Rote memorisation of poems
- D. Objective way of testing language skills
- E. Lack of proper teaching - learning materials

Choose the correct answer from the options given below:

1. A, B, C only
2. B, C, D only
3. A, B, C, D only
4. A, B, C, D and E

Options :

- 485584146489. 1
- 485584146490. 2
- 485584146491. 3
- 485584146492. 4

Question Number : 238 Question Id : 48558436623 Question Type : MCQ Option Shuffling : No Is Question Mandatory : No Calculator : None Response Time : N.A Think Time : N.A Minimum Instruction Time : 0

Correct Marks : 5 Wrong Marks : 1

Question Key Details :

Key	Value
Comprehension	MCQ

ಭಾರತದಲ್ಲಿ ವಿದ್ಯಾರ್ಥಿಗಳು ಇಂಗ್ಲಿಷ್ ಕಲಿಯುವಾಗ ಎದುರಿಸುವ ಸವಾಲುಗಳು ಯಾವುವು?

- A. ತರಬೇತಿಗೊಂಡ ಶಿಕ್ಷಕರ ಕೊರತೆ
- B. ಭಾಷಾ ವಾತಾವರಣ ಉಂಟುಮಾಡಬಲ್ಲವನ ಕೊರತೆ
- C. ಪದ್ಯಗಳ ಬಾಯಿಪಾಠದ ಸ್ಮರಣೆ
- D. ಭಾಷಾ ಕೌಶಲ್ಯವನ್ನು ವಸ್ತುನಿಷ್ಠವಾಗಿ ಪರೀಕ್ಷಿಸುವುದು
- E. ಬೋಧನಾ-ಕಲಿಕಾ ಸಾಮಗ್ರಿಗಳ ಕೊರತೆ

ಈ ಕೆಳಗಿನ ಆಯ್ಕೆಗಳಿಂದ ಸರಿಯಾದ ಉತ್ತರವನ್ನು ಆರಿಸಿ:

1. A, B, C ಮಾತ್ರ
2. B, C, D ಮಾತ್ರ
3. A, B, C, D ಮಾತ್ರ
4. A, B, C, D ಮತ್ತು E

Options :

- 485584146489. 1
- 485584146490. 2
- 485584146491. 3

485584146492. 4

Question Number : 239 Question Id : 48558436624 Question Type : MCQ Option Shuffling : No Is Question Mandatory : No Calculator : None Response Time : N.A Think Time : N.A Minimum Instruction Time : 0

Correct Marks : 5 Wrong Marks : 1

Question Key Details :

Key	Value
Comprehension	MCQ

What is a biography?

1. An account of a person written by oneself.
2. An account of a person written by others.
3. A book of biology.
4. A historical account.

Options :

485584146493. 1
485584146494. 2
485584146495. 3
485584146496. 4

Question Number : 239 Question Id : 48558436624 Question Type : MCQ Option Shuffling : No Is Question Mandatory : No Calculator : None Response Time : N.A Think Time : N.A Minimum Instruction Time : 0

Correct Marks : 5 Wrong Marks : 1

Question Key Details :

Key	Value
Comprehension	MCQ

ಜೀವನ ಚರಿತ್ರೆ ಎಂದರೇನು?

1. ಒಬ್ಬ ವ್ಯಕ್ತಿಯ ಚಿತ್ರಣವನ್ನು ತಾನೇ ಬರೆದುಕೊಳ್ಳುವುದು
2. ಒಬ್ಬ ವ್ಯಕ್ತಿಯ ಚಿತ್ರಣವನ್ನು ಬೇರೆಯವರು ಬರೆಯುವುದು
3. ಜೀವಶಾಸ್ತ್ರದ ಒಂದು ಪುಸ್ತಕ
4. ಒಂದು ಐತಿಹಾಸಿಕ ಚಿತ್ರಣ

Options :

485584146493. 1
485584146494. 2
485584146495. 3
485584146496. 4

Question Number : 240 Question Id : 48558436625 Question Type : MCQ Option Shuffling : No Is Question Mandatory : No Calculator : None Response Time : N.A Think Time : N.A Minimum Instruction Time : 0

Correct Marks : 5 Wrong Marks : 1

Question Key Details :

Key	Value
-----	-------

How can grammar books be modified to minimise the difficulties learners face while learning grammar?

- A. By teaching grammar in context
- B. By including pictures and illustrations
- C. By giving more practice and examples
- D. By focusing only on the rules
- E. By translating in different languages

Choose the correct answer from the options given below:

- 1. A, B, C only
- 2. A, D, E only
- 3. C, D, E only
- 4. B, C, D only

Options :

- 485584146497. 1
- 485584146498. 2
- 485584146499. 3
- 485584146500. 4

Question Number : 240 Question Id : 48558436625 Question Type : MCQ Option Shuffling : No Is Question Mandatory : No Calculator : None Response Time : N.A Think Time : N.A Minimum Instruction Time : 0

Correct Marks : 5 Wrong Marks : 1

Question Key Details :

Key	Value
Comprehension	MCQ

ವ್ಯಾಕರಣವನ್ನು ಕಲಿಯುವ ಸಮಯದಲ್ಲಿ ಕಲಿಕಾರ್ಥಿಯು ಎದುರಿಸುವ ಕಷ್ಟಗಳನ್ನು ಕಡಿಮೆ ಮಾಡಲು ವ್ಯಾಕರಣ ಪುಸ್ತಕವನ್ನು ಹೇಗೆ ಮಾರ್ಪಾಡು ಮಾಡಬಹುದು?

- A. ಸಂದರ್ಭಕ್ಕೆ ಅನುಗುಣವಾಗಿ ವ್ಯಾಕರಣವನ್ನು ಬೋಧಿಸುವುದರಿಂದ
- B. ಚಿತ್ರಗಳು ಮತ್ತು ರೇಖಾಚಿತ್ರಗಳನ್ನು ಸೇರಿಸಿಕೊಳ್ಳುವುದರಿಂದ
- C. ಹೆಚ್ಚು ಅಭ್ಯಾಸ ಮತ್ತು ಉದಾಹರಣೆಗಳನ್ನು ನೀಡುವುದರಿಂದ
- D. ನಿಯಮಗಳ ಮೇಲೆ ಮಾತ್ರ ಕೇಂದ್ರೀಕರಿಸುವುದರಿಂದ
- E. ವಿವಿಧ ಭಾಷೆಗಳಲ್ಲಿ ಭಾಷಾಂತರ ಮಾಡುವುದರಿಂದ

ಈ ಕೆಳಗಿನ ಆಯ್ಕೆಗಳಿಂದ ಸರಿಯಾದ ಉತ್ತರವನ್ನು ಆರಿಸಿ:

- 1. A, B, C ಮಾತ್ರ
- 2. A, D, E ಮಾತ್ರ
- 3. C, D, E ಮಾತ್ರ
- 4. B, C, D ಮಾತ್ರ

Options :

485584146497. 1
485584146498. 2
485584146499. 3
485584146500. 4

Sub-Section Number : 2
Sub-Section Id : 4855842703
Question Shuffling Allowed : No
Is Section Default? : null

Question Number : 241 Question Id : 48558436626 Question Type : MCQ Option Shuffling : No Is Question Mandatory : No Calculator : None Response Time : N.A Think Time : N.A Minimum Instruction Time : 0 Correct Marks : 5 Wrong Marks : 1

Question Key Details :

Key	Value
Comprehension	Compl

At the upper primary level, the emphasis is on engaging the learner in learning principles of science through familiar experiences, working with hands to design simple technological units and modules and continuing to learn more on environment and health through activities and surveys.

As a science teacher, you will agree that scientific concepts are learnt better if learners explore them through activities and experiments. Learners should be given opportunity to explore science in their everyday experiences. You should engage learners (preferably in groups) in meaningful investigations - particularly of the problems they perceive to be significant and important.

As a science teacher, you should encourage discussions with the teacher and peers. You can ask your learners to gather information from newspapers, knowledgeable persons in the neighborhood, and from easily available sources and discuss about them in class with peers and teachers.

Role play, skits, cooperative learning strategies should be adopted to ensure larger participation and sharing of learning outcomes. It is advised that biographical narratives of scientists and inventors can be used. You should keep in mind that efforts should be continued for development of the process skills of science.

In order to explore the orbits and distribution of electrons in orbits, which could be the most appropriate teaching strategy/method?

1. Lecture
2. Demonstration
3. Brain-storming followed by exercise
4. Numerical Practice

Options :

485584146501. 1
485584146502. 2
485584146503. 3
485584146504. 4

Question Number : 241 Question Id : 48558436626 Question Type : MCQ Option Shuffling : No Is Question Mandatory : No Calculator : None Response Time : N.A Think Time : N.A Minimum Instruction Time : 0 Correct Marks : 5 Wrong Marks : 1

Question Key Details :

Key	Value
Comprehension	Comp1

ಮೇಲಿನ ಪ್ರಾಥಮಿಕ ಮಟ್ಟದಲ್ಲಿ ಸಾಮಾನ್ಯ ಅನುಭವಗಳು, ಸರಳ ತಂತ್ರಜ್ಞಾನ ಘಟಕಗಳು ಮತ್ತು ಮಾಡ್ಯೂಲ್‌ಗಳ ವನ್ಯಾಸ ಮಾಡಲು ಕೈಗಳಿಂದ ಕಾರ್ಯ ನಿರ್ವಹಿಸುವ ಮತ್ತು ನಿರಂತರವಾಗಿ ಪರಿಸರ ಮತ್ತು ಆರೋಗ್ಯದ ಮೇಲೆ ಹೆಚ್ಚಿನ ಕಲಿಕೆ ಚಟುವಟಿಕೆ ಮತ್ತು ಸರ್ವೇಕ್ಷಣೆ ಮೂಲಕ ಕಲಿಕಾರ್ಥಿಯನ್ನು ವಿಜ್ಞಾನ ತತ್ವಗಳನ್ನು ಕಲಿಯಲು ನಿರತವಾಗುವಂತೆ ಒತ್ತು ನೀಡಲಾಗುತ್ತದೆ.

ಒಬ್ಬ ವಿಜ್ಞಾನ ಶಿಕ್ಷಕನಾಗಿ, ಕಲಿಕಾರ್ಥಿಯ ಚಟುವಟಿಕೆಗಳು ಮತ್ತು ಅನುಭವಗಳ ಮೂಲಕ ವಿಜ್ಞಾನದ ಕಲ್ಪನೆಯನ್ನು ಕಲಿತರೆ ಉತ್ತಮವಾಗಿ ಕಲಿಯುತ್ತಾನೆಂದು ನೀವು ಒಪ್ಪಿಕೊಳ್ಳುತ್ತೀರಿ. ಕಲಿಕಾರ್ಥಿಯು ತನ್ನ ಪ್ರತಿದಿನ ಅನುಭವಗಳಲ್ಲಿ ವಿಜ್ಞಾನವನ್ನು ಅನ್ವೇಷಿಸಲು ಅವಕಾಶ ನೀಡಬೇಕು. ನೀವು ಕಲಿಕಾರ್ಥಿಯನ್ನು (ಗುಂಪುಗಳಿಗೆ ಪ್ರಾಶಸ್ತ್ಯ) ಆರ್ಥವರ್ಣ ಅನ್ವೇಷಣೆಗಳಲ್ಲಿ ನಿರ್ದಿಷ್ಟವಾಗಿ ಅವರ ಗಮನಾರ್ಹ ಮತ್ತು ಮಹತ್ವದ್ದು ಎಂದು ಭಾವಿಸುವ ಸಮಸ್ಯೆಗಳಲ್ಲಿ ತೊಡಗುವಂತೆ ಮಾಡಬೇಕು.

ಒಬ್ಬ ವಿಜ್ಞಾನ ಶಿಕ್ಷಕನಾಗಿ ಶಿಕ್ಷಕರು ಮತ್ತು ಸಮಾನರ ಜೊತೆ ಚರ್ಚೆಗಳನ್ನು ಪ್ರೋತ್ಸಾಹಿಸಬೇಕು. ನೀವು ನಿಮ್ಮ ಕಲಿಕಾರ್ಥಿಗೆ ವ್ಯತ್ಯಪತ್ರಿಕೆಗಳಿಂದ, ಅಕ್ಕಪಕ್ಕದಲ್ಲಿ ತಿಳಿದಿರುವ ವ್ಯಕ್ತಿಗಳಿಂದ ಮತ್ತು ಸುಲಭವಾಗಿ ದೊರಕುವ ಮೂಲಗಳಿಂದ ಮಾಹಿತಿಯನ್ನು ಸಂಗ್ರಹಿಸಿ ಮತ್ತು ಅವುಗಳ ಬಗ್ಗೆ ತರಗತಿಯಲ್ಲಿ ಸಮಾನರೊಂದಿಗೆ ಮತ್ತು ಶಿಕ್ಷಕರೊಂದಿಗೆ ಚರ್ಚಿಸಲು ಹೇಳಬಹುದು. ಪಾತ್ರಗಳ ಪ್ರದರ್ಶನ, ಕಿರುನಾಟಕ, ಸಹಕಾರಿ ಕಲಿಕಾ ಕಾರ್ಯತಂತ್ರಗಳನ್ನು ಹೆಚ್ಚಿನ ಭಾಗವಹಿಸುವಿಕೆ ಮತ್ತು ಕಲಿಕಾ ಫಲಿತಾಂಶಗಳನ್ನು ಹಂಚಿಕೊಳ್ಳುವುದನ್ನು ಖಾತ್ರಿಪಡಿಸಿ ಆಳವಡಿಸಿಕೊಳ್ಳಬೇಕು. ವಿಜ್ಞಾನಿಗಳ ಮತ್ತು ಅನ್ವೇಷಕರ ಆತ್ಮಕಥೆಯನ್ನು ಬಳಸುವ ಸಲಹೆ ನೀಡಬಹುದು. ವಿಜ್ಞಾನದ ಪ್ರಕ್ರಿಯೆ ಕೌಶಲ್ಯಗಳ ನಿರಂತರ ಬೆಳವಣಿಗೆಯನ್ನು ಮನದಲ್ಲಿ ನೀವು ಇರಿಸಿಕೊಳ್ಳಬೇಕು.

ಕಕ್ಕಗಳು ಮತ್ತು ಕಕ್ಕಗಳಲ್ಲಿ ಎಲೆಕ್ಟ್ರಾನಾಗಳ ಹಂಚಿಕೆಯನ್ನು ಆವಿಷ್ಕಾರ ಮಾಡಲು ಯಾವುದು ಅತ್ಯಂತ ಸೂಕ್ತ ಕಲಿಕಾ ಕಾರ್ಯ ತಂತ್ರವಿಧಾನ?

1. ಉಪನ್ಯಾಸ
2. ಪ್ರಾತ್ಯಕ್ಷಿಕೆ
3. ಬೈನ್ ಸ್ಕ್ರಾಂಪಿಂಗ್ ನಂತರ ಅಭ್ಯಾಸ
4. ಸಾಂಖ್ಯಿಕ ಪದ್ಧತಿ

Options :

485584146501. 1
485584146502. 2
485584146503. 3
485584146504. 4

Question Number : 242 Question Id : 48558436627 Question Type : MCQ Option Shuffling : No Is Question Mandatory : No Calculator : None Response Time : N.A Think Time : N.A Minimum Instruction Time : 0

Correct Marks : 5 Wrong Marks : 1

Question Key Details :

Key	Value
Comprehension	Comp1

At the upper primary level, the emphasis is on engaging the learner in learning principles of science through familiar experiences, working with hands to design simple technological units and modules and continuing to learn more on environment and health through activities and surveys.

As a science teacher, you will agree that scientific concepts are learnt better if learners explore them through activities and experiments. Learners should be given opportunity to explore science in their everyday experiences. You should engage learners (preferably in groups) in meaningful investigations - particularly of the problems they perceive to be significant and important.

As a science teacher, you should encourage discussions with the teacher and peers. You can ask your learners to gather information from newspapers, knowledgeable persons in the neighborhood, and from easily available sources and discuss about them in class with peers and teachers.

Role play, skits, cooperative learning strategies should be adopted to ensure larger participation and sharing of learning outcomes. It is advised that biographical narratives of scientists and inventors can be used. You should keep in mind that efforts should be continued for development of the process skills of science.

Which would be the most appropriate teaching learning material to explain different types of atomic models?

1. Charts
2. Pictures
3. Video animation
4. Black board

Options :

- 485584146505. 1
- 485584146506. 2
- 485584146507. 3
- 485584146508. 4

Question Number : 242 Question Id : 48558436627 Question Type : MCQ Option Shuffling : No Is Question Mandatory : No Calculator : None Response Time : N.A Think Time : N.A Minimum Instruction Time : 0

Correct Marks : 5 Wrong Marks : 1

Question Key Details :

Key	Value
Comprehension	Comp1

ಮೇಲಿನ ಪ್ರಾಥಮಿಕ ಮಟ್ಟದಲ್ಲಿ ಸಾಮಾನ್ಯ ಅನುಭವಗಳು, ಸರಳ ತಂತ್ರಜ್ಞಾನ ಘಟಕಗಳು ಮತ್ತು ಮಾದ್ಯೂಲ್‌ಗಳ ವನ್ಯಾಸ ಮಾಡಲು ಕೈಗಳಿಂದ ಕಾರ್ಯ ನಿರ್ವಹಿಸುವ ಮತ್ತು ನಿರಂತರವಾಗಿ ಪರಿಸರ ಮತ್ತು ಆರೋಗ್ಯದ ಮೇಲೆ ಹೆಚ್ಚಿನ ಕಲಿಕೆ ಚಟುವಟಿಕೆ ಮತ್ತು ಸರ್ವೇಕ್ಷಣೆ ಮೂಲಕ ಕಲಿಕಾರ್ಥಿಯನ್ನು ವಿಜ್ಞಾನ ತತ್ವಗಳನ್ನು ಕಲಿಯಲು ನಿರತವಾಗುವಂತೆ ಒತ್ತು ನೀಡಲಾಗುತ್ತದೆ.

ಒಬ್ಬ ವಿಜ್ಞಾನ ಶಿಕ್ಷಕನಾಗಿ, ಕಲಿಕಾರ್ಥಿಯ ಚಟುವಟಿಕೆಗಳು ಮತ್ತು ಅನುಭವಗಳ ಮೂಲಕ ವಿಜ್ಞಾನದ ಕಲ್ಪನೆಯನ್ನು ಕಲಿತರೆ ಉತ್ತಮವಾಗಿ ಕಲಿಯುತ್ತಾನೆಂದು ನೀವು ಒಪ್ಪಿಕೊಳ್ಳುತ್ತೀರಿ. ಕಲಿಕಾರ್ಥಿಯು ತನ್ನ ಪ್ರತಿದಿನ ಅನುಭವಗಳಲ್ಲಿ ವಿಜ್ಞಾನವನ್ನು ಅನ್ವೇಷಿಸಲು ಅವಕಾಶ ನೀಡಬೇಕು. ನೀವು ಕಲಿಕಾರ್ಥಿಯನ್ನು (ಗುಂಪುಗಳಿಗೆ ಪ್ರಾಶಸ್ತ್ಯ) ಆರ್ಥಪೂರ್ಣ ಅನ್ವೇಷಣೆಗಳಲ್ಲಿ ನಿರ್ದಿಷ್ಟವಾಗಿ ಅವರ ಗಮನಾರ್ಹ ಮತ್ತು ಮಹತ್ವದ್ದು ಎಂದು ಭಾವಿಸುವ ಸಮಸ್ಯೆಗಳಲ್ಲಿ ತೊಡಗುವಂತೆ ಮಾಡಬೇಕು.

ಒಬ್ಬ ವಿಜ್ಞಾನ ಶಿಕ್ಷಕನಾಗಿ ಶಿಕ್ಷಕರು ಮತ್ತು ಸಮಾನರ ಜೊತೆ ಚರ್ಚೆಗಳನ್ನು ಪ್ರೋತ್ಸಾಹಿಸಬೇಕು. ನೀವು ನಿಮ್ಮ ಕಲಿಕಾರ್ಥಿಗೆ ವ್ಯತ್ಯಪತ್ರಿಕೆಗಳಿಂದ, ಅಕ್ಕಪಕ್ಕದಲ್ಲಿ ತಿಳಿದಿರುವ ವ್ಯಕ್ತಿಗಳಿಂದ ಮತ್ತು ಗುಲಭವಾಗಿ ದೊರಕುವ ಮೂಲಗಳಿಂದ ಮಾಹಿತಿಯನ್ನು ಸಂಗ್ರಹಿಸಿ ಮತ್ತು ಅವುಗಳ ಬಗ್ಗೆ ತರಗತಿಯಲ್ಲಿ ಸಮಾನರೊಂದಿಗೆ ಮತ್ತು ಶಿಕ್ಷಕರೊಂದಿಗೆ ಚರ್ಚಿಸಲು ಹೇಳಬಹುದು. ಪಾತ್ರಗಳ ಪ್ರದರ್ಶನ, ಕಿರುನಾಟಕ, ಸಹಕಾರಿ ಕಲಿಕಾ ಕಾರ್ಯತಂತ್ರಗಳನ್ನು ಹೆಚ್ಚಿನ ಭಾಗವಹಿಸುವಿಕೆ ಮತ್ತು ಕಲಿಕಾ ಫಲಿತಾಂಶಗಳನ್ನು ಹಂಚಿಕೊಳ್ಳುವುದನ್ನು ಖಾತ್ರಿಪಡಿಸಿ ಅಳವಡಿಸಿಕೊಳ್ಳಬೇಕು. ವಿಜ್ಞಾನಿಗಳ ಮತ್ತು ಅನ್ವೇಷಕರ ಆತ್ಮಕಥೆಯನ್ನು ಬಳಸುವ ಸಲಹೆ ನೀಡಬಹುದು. ವಿಜ್ಞಾನದ ಪ್ರಕ್ರಿಯೆ ಕೌಶಲ್ಯಗಳ ನಿರಂತರ ಬೆಳವಣಿಗೆಯನ್ನು ಮನದಲ್ಲಿ ನೀವು ಇರಿಸಿಕೊಳ್ಳಬೇಕು.

ವಿವಿಧ ಅಣು ಮಾದರಿಗಳನ್ನು ವಿವರಿಸಲು ಯಾವುದು ಅತ್ಯಂತ ಸೂಕ್ತವಾದ ಬೋಧನಾ ಕಲಿಕಾ ವಸ್ತುವಾಗಬಹುದು?

1. ಚಾರ್ಟ್‌ಗಳು
2. ಚಿತ್ರಗಳು
3. ವೀಡಿಯೋ ಅನಿಮೇಷನ್
4. ಕಪ್ಪು ಹಲಗೆ

Options :

485584146505. 1
485584146506. 2
485584146507. 3
485584146508. 4

Question Number : 243 Question Id : 48558436628 Question Type : MCQ Option Shuffling : No Is Question Mandatory : No Calculator : None Response Time : N.A Think Time : N.A Minimum Instruction Time : 0

Correct Marks : 5 Wrong Marks : 1

Question Key Details :

Key	Value
Comprehension	Comp1

At the upper primary level, the emphasis is on engaging the learner in learning principles of science through familiar experiences, working with hands to design simple technological units and modules and continuing to learn more on environment and health through activities and surveys.

As a science teacher, you will agree that scientific concepts are learnt better if learners explore them through activities and experiments. Learners should be given opportunity to explore science in their everyday experiences. You should engage learners (preferably in groups) in meaningful investigations - particularly of the problems they perceive to be significant and important.

As a science teacher, you should encourage discussions with the teacher and peers. You can ask your learners to gather information from newspapers, knowledgeable persons in the neighborhood, and from easily available sources and discuss about them in class with peers and teachers.

Role play, skits, cooperative learning strategies should be adopted to ensure larger participation and sharing of learning outcomes. It is advised that biographical narratives of scientists and inventors can be used. You should keep in mind that efforts should be continued for development of the process skills of science.

If a teacher is teaching types of sub-atomic particles and their charges, which could be the most appropriate tool for assessment?

1. Unit tests
2. Oral test
3. A field project
4. Crossword puzzle

Options :

- 485584146509. 1
- 485584146510. 2
- 485584146511. 3
- 485584146512. 4

Question Number : 243 Question Id : 48558436628 Question Type : MCQ Option Shuffling : No Is Question Mandatory : No Calculator : None Response Time : N.A Think Time : N.A Minimum Instruction Time : 0

Correct Marks : 5 Wrong Marks : 1

Question Key Details :

Key	Value
Comprehension	Comp1

ಮೇಲಿನ ಪ್ರಾಥಮಿಕ ಮಟ್ಟದಲ್ಲಿ ಸಾಮಾನ್ಯ ಅನುಭವಗಳು, ಸರಳ ತಂತ್ರಜ್ಞಾನ ಘಟಕಗಳು ಮತ್ತು ಮಾದ್ಯೂಲಾಗಳ ವನ್ಯಾಸ ಮಾಡಲು ಕೈಗಳಿಂದ ಕಾರ್ಯ ನಿರ್ವಹಿಸುವ ಮತ್ತು ನಿರಂತರವಾಗಿ ಪರಿಸರ ಮತ್ತು ಆರೋಗ್ಯದ ಮೇಲೆ ಹೆಚ್ಚಿನ ಕಲಿಕೆ ಚಟುವಟಿಕೆ ಮತ್ತು ಸರ್ವೇಕ್ಷಣೆ ಮೂಲಕ ಕಲಿಕಾರ್ಥಿಯನ್ನು ವಿಜ್ಞಾನ ತತ್ವಗಳನ್ನು ಕಲಿಯಲು ನಿರತವಾಗುವಂತೆ ಒತ್ತು ನೀಡಲಾಗುತ್ತದೆ.

ಒಬ್ಬ ವಿಜ್ಞಾನ ಶಿಕ್ಷಕನಾಗಿ, ಕಲಿಕಾರ್ಥಿಯ ಚಟುವಟಿಕೆಗಳು ಮತ್ತು ಅನುಭವಗಳ ಮೂಲಕ ವಿಜ್ಞಾನದ ಕಲ್ಪನೆಯನ್ನು ಕಲಿತರೆ ಉತ್ತಮವಾಗಿ ಕಲಿಯುತ್ತಾನೆಂದು ನೀವು ಒಪ್ಪಿಕೊಳ್ಳುತ್ತೀರಿ. ಕಲಿಕಾರ್ಥಿಯು ತನ್ನ ಪ್ರತಿದಿನ ಅನುಭವಗಳಲ್ಲಿ ವಿಜ್ಞಾನವನ್ನು ಅನ್ವೇಷಿಸಲು ಅವಕಾಶ ನೀಡಬೇಕು. ನೀವು ಕಲಿಕಾರ್ಥಿಯನ್ನು (ಗುಂಪುಗಳಿಗೆ ಪ್ರಾಶಸ್ತ್ಯ) ಆರ್ಥಪೂರ್ಣ ಅನ್ವೇಷಣೆಗಳಲ್ಲಿ ನಿರ್ದಿಷ್ಟವಾಗಿ ಅವರ ಗಮನಾರ್ಹ ಮತ್ತು ಮಹತ್ವದ್ದು ಎಂದು ಭಾವಿಸುವ ಸಮಸ್ಯೆಗಳಲ್ಲಿ ತೊಡಗುವಂತೆ ಮಾಡಬೇಕು.

ಒಬ್ಬ ವಿಜ್ಞಾನ ಶಿಕ್ಷಕನಾಗಿ ಶಿಕ್ಷಕರು ಮತ್ತು ಸಮಾನರ ಜೊತೆ ಚರ್ಚೆಗಳನ್ನು ಪ್ರೋತ್ಸಾಹಿಸಬೇಕು. ನೀವು ನಿಮ್ಮ ಕಲಿಕಾರ್ಥಿಗೆ ವ್ಯತ್ಯಪತ್ರಿಕೆಗಳಿಂದ, ಅಕ್ಕಪಕ್ಕದಲ್ಲಿ ತಿಳಿದಿರುವ ವ್ಯಕ್ತಿಗಳಿಂದ ಮತ್ತು ಗುಲಭವಾಗಿ ದೊರಕುವ ಮೂಲಗಳಿಂದ ಮಾಹಿತಿಯನ್ನು ಸಂಗ್ರಹಿಸಿ ಮತ್ತು ಅವುಗಳ ಬಗ್ಗೆ ತರಗತಿಯಲ್ಲಿ ಸಮಾನರೊಂದಿಗೆ ಮತ್ತು ಶಿಕ್ಷಕರೊಂದಿಗೆ ಚರ್ಚಿಸಲು ಹೇಳಬಹುದು. ಪಾತ್ರಗಳ ಪ್ರದರ್ಶನ, ಕಿರುನಾಟಕ, ಸಹಕಾರಿ ಕಲಿಕಾ ಕಾರ್ಯತಂತ್ರಗಳನ್ನು ಹೆಚ್ಚಿನ ಭಾಗವಹಿಸುವಿಕೆ ಮತ್ತು ಕಲಿಕಾ ಫಲಿತಾಂಶಗಳನ್ನು ಹಂಚಿಕೊಳ್ಳುವುದನ್ನು ಖಾತ್ರಿಪಡಿಸಿ ಅಳವಡಿಸಿಕೊಳ್ಳಬೇಕು. ವಿಜ್ಞಾನಿಗಳ ಮತ್ತು ಅನ್ವೇಷಕರ ಆತ್ಮಕಥೆಯನ್ನು ಬಳಸುವ ಸಲಹೆ ನೀಡಬಹುದು. ವಿಜ್ಞಾನದ ಪ್ರಕ್ರಿಯೆ ಕೌಶಲ್ಯಗಳ ನಿರಂತರ ಬೆಳವಣಿಗೆಯನ್ನು ಮನದಲ್ಲಿ ನೀವು ಇರಿಸಿಕೊಳ್ಳಬೇಕು.

ಒಬ್ಬ ಶಿಕ್ಷಕನು ಉಪ-ಅಣು ಕಣಗಳು ಮತ್ತು ಅವುಗಳ ಚಾರ್ಜ್‌ಗಳ ವಿಧವನ್ನು ಬೋಧಿಸಿ ಪರೀಕ್ಷಿಸಲು ಯಾವುದು ಅತ್ಯಂತ ಸೂಕ್ತ ಸಾಧನವಾಗಬಹುದು?

1. ಘಟಕ ಪರೀಕ್ಷೆಗಳು
2. ಮೌಖಿಕ ಪರೀಕ್ಷೆಗಳು
3. ಒಂದು ಕ್ಷೇತ್ರಕಾರ್ಯ ಸಮೀಕ್ಷೆ
4. ಚಕ್ರಬಂಧ ಒಗಟು

Options :

485584146509. 1

485584146510. 2

485584146511. 3

485584146512. 4

Question Number : 244 Question Id : 48558436629 Question Type : MCQ Option Shuffling : No Is Question Mandatory : No Calculator : None Response Time : N.A Think Time : N.A Minimum Instruction Time : 0

Correct Marks : 5 Wrong Marks : 1

Question Key Details :

Key	Value
Comprehension	Comp1

At the upper primary level, the emphasis is on engaging the learner in learning principles of science through familiar experiences, working with hands to design simple technological units and modules and continuing to learn more on environment and health through activities and surveys.

As a science teacher, you will agree that scientific concepts are learnt better if learners explore them through activities and experiments. Learners should be given opportunity to explore science in their everyday experiences. You should engage learners (preferably in groups) in meaningful investigations - particularly of the problems they perceive to be significant and important.

As a science teacher, you should encourage discussions with the teacher and peers. You can ask your learners to gather information from newspapers, knowledgeable persons in the neighborhood, and from easily available sources and discuss about them in class with peers and teachers.

Role play, skits, cooperative learning strategies should be adopted to ensure larger participation and sharing of learning outcomes. It is advised that biographical narratives of scientists and inventors can be used. You should keep in mind that efforts should be continued for development of the process skills of science.

Which among the following objectives belongs to 'creating' cognitive process domain?

1. making a simple torch
2. explaining how a bulb glows
3. selecting suitable cell for torch
4. Indicating direction of flow of currents

Options :

- 485584146513. 1
- 485584146514. 2
- 485584146515. 3
- 485584146516. 4

Question Number : 244 Question Id : 48558436629 Question Type : MCQ Option Shuffling : No Is Question Mandatory : No Calculator : None Response Time : N.A Think Time : N.A Minimum Instruction Time : 0

Correct Marks : 5 Wrong Marks : 1

Question Key Details :

Key	Value
Comprehension	Comp1

ಮೇಲಿನ ಪ್ರಾಥಮಿಕ ಮಟ್ಟದಲ್ಲಿ ಸಾಮಾನ್ಯ ಅನುಭವಗಳು, ಸರಳ ತಂತ್ರಜ್ಞಾನ ಘಟಕಗಳು ಮತ್ತು ಮಾದ್ಯೂಲಾಗಳ ವನ್ಯಾಸ ಮಾಡಲು ಕೈಗಳಿಂದ ಕಾರ್ಯ ನಿರ್ವಹಿಸುವ ಮತ್ತು ನಿರಂತರವಾಗಿ ಪರಿಸರ ಮತ್ತು ಆರೋಗ್ಯದ ಮೇಲೆ ಹೆಚ್ಚಿನ ಕಲಿಕೆ ಚಟುವಟಿಕೆ ಮತ್ತು ಸರ್ವೇಕ್ಷಣೆ ಮೂಲಕ ಕಲಿಕಾರ್ಥಿಯನ್ನು ವಿಜ್ಞಾನ ತತ್ವಗಳನ್ನು ಕಲಿಯಲು ನಿರತವಾಗುವಂತೆ ಒತ್ತು ನೀಡಲಾಗುತ್ತದೆ.

ಒಬ್ಬ ವಿಜ್ಞಾನ ಶಿಕ್ಷಕನಾಗಿ, ಕಲಿಕಾರ್ಥಿಯ ಚಟುವಟಿಕೆಗಳು ಮತ್ತು ಅನುಭವಗಳ ಮೂಲಕ ವಿಜ್ಞಾನದ ಕಲ್ಪನೆಯನ್ನು ಕಲಿತರೆ ಉತ್ತಮವಾಗಿ ಕಲಿಯುತ್ತಾನೆಂದು ನೀವು ಒಪ್ಪಿಕೊಳ್ಳುತ್ತೀರಿ. ಕಲಿಕಾರ್ಥಿಯು ತನ್ನ ಪ್ರತಿದಿನ ಅನುಭವಗಳಲ್ಲಿ ವಿಜ್ಞಾನವನ್ನು ಅನ್ವೇಷಿಸಲು ಅವಕಾಶ ನೀಡಬೇಕು. ನೀವು ಕಲಿಕಾರ್ಥಿಯನ್ನು (ಗುಂಪುಗಳಿಗೆ ಪ್ರಾಶಸ್ತ್ಯ) ಅರ್ಥಪೂರ್ಣ ಅನ್ವೇಷಣೆಗಳಲ್ಲಿ ನಿರ್ದಿಷ್ಟವಾಗಿ ಅವರ ಗಮನಾರ್ಹ ಮತ್ತು ಮಹತ್ವದ್ದು ಎಂದು ಭಾವಿಸುವ ಸಮಸ್ಯೆಗಳಲ್ಲಿ ತೊಡಗುವಂತೆ ಮಾಡಬೇಕು.

ಒಬ್ಬ ವಿಜ್ಞಾನ ಶಿಕ್ಷಕನಾಗಿ ಶಿಕ್ಷಕರು ಮತ್ತು ಸಮಾನರ ಜೊತೆ ಚರ್ಚೆಗಳನ್ನು ಪ್ರೋತ್ಸಾಹಿಸಬೇಕು. ನೀವು ನಿಮ್ಮ ಕಲಿಕಾರ್ಥಿಗೆ ವ್ಯತ್ಯಪತ್ರಿಕೆಗಳಿಂದ, ಅಕ್ಕಪಕ್ಕದಲ್ಲಿ ತಿಳಿದಿರುವ ವ್ಯಕ್ತಿಗಳಿಂದ ಮತ್ತು ಗುಲಭವಾಗಿ ದೊರಕುವ ಮೂಲಗಳಿಂದ ಮಾಹಿತಿಯನ್ನು ಸಂಗ್ರಹಿಸಿ ಮತ್ತು ಅವುಗಳ ಬಗ್ಗೆ ತರಗತಿಯಲ್ಲಿ ಸಮಾನರೊಂದಿಗೆ ಮತ್ತು ಶಿಕ್ಷಕರೊಂದಿಗೆ ಚರ್ಚಿಸಲು ಹೇಳಬಹುದು. ಪಾತ್ರಗಳ ಪ್ರದರ್ಶನ, ಕಿರುನಾಟಕ, ಸಹಕಾರಿ ಕಲಿಕಾ ಕಾರ್ಯತಂತ್ರಗಳನ್ನು ಹೆಚ್ಚಿನ ಭಾಗವಹಿಸುವಿಕೆ ಮತ್ತು ಕಲಿಕಾ ಫಲಿತಾಂಶಗಳನ್ನು ಹಂಚಿಕೊಳ್ಳುವುದನ್ನು ಖಾತ್ರಿಪಡಿಸಿ ಅಳವಡಿಸಿಕೊಳ್ಳಬೇಕು. ವಿಜ್ಞಾನಿಗಳ ಮತ್ತು ಅನ್ವೇಷಕರ ಆತ್ಮಕಥೆಯನ್ನು ಬಳಸುವ ಸಲಹೆ ನೀಡಬಹುದು. ವಿಜ್ಞಾನದ ಪ್ರಕ್ರಿಯೆ ಕೌಶಲ್ಯಗಳ ನಿರಂತರ ಬೆಳವಣಿಗೆಯನ್ನು ಮನದಲ್ಲಿ ನೀವು ಇರಿಸಿಕೊಳ್ಳಬೇಕು.

ಕೆಳಗಿನವುಗಳಲ್ಲಿ ಯಾವ ಉದ್ದೇಶಗಳು ಜ್ಞಾನಾತ್ಮಕ ಪ್ರಕ್ರಿಯೆ ಕ್ಷೇತ್ರವನ್ನು ಸೃಷ್ಟಿಸಲು ಸೇರಿಕೊಂಡಿದೆ?

1. ಒಂದು ಸರಳ ಚಾರ್ಟ್ ಮಾಡುವುದು
2. ಬಲ್ಲಾ ಹೇಗೆ ಪ್ರಕಾಶಿಸುತ್ತದೆ ಎಂದು ವಿವರಿಸುವುದು
3. ಟಾರ್ಚ್‌ಗೆ ಸೂಕ್ತವಾದ ಶುಷ್ಕಕೋಶವನ್ನು ಆಯ್ಕೆ ಮಾಡುವುದು
4. ವಿದ್ಯುತ್ತಿನ ಹರಿವಿನ ದಿಕ್ಕನ್ನು ತೋರಿಸುವುದು

Options :

485584146513. 1
485584146514. 2
485584146515. 3
485584146516. 4

Question Number : 245 Question Id : 48558436630 Question Type : MCQ Option Shuffling : No Is Question Mandatory : No Calculator : None Response Time : N.A Think Time : N.A Minimum Instruction Time : 0

Correct Marks : 5 Wrong Marks : 1

Question Key Details :

Key	Value
Comprehension	Comp1

At the upper primary level, the emphasis is on engaging the learner in learning principles of science through familiar experiences, working with hands to design simple technological units and modules and continuing to learn more on environment and health through activities and surveys.

As a science teacher, you will agree that scientific concepts are learnt better if learners explore them through activities and experiments. Learners should be given opportunity to explore science in their everyday experiences. You should engage learners (preferably in groups) in meaningful investigations - particularly of the problems they perceive to be significant and important.

As a science teacher, you should encourage discussions with the teacher and peers. You can ask your learners to gather information from newspapers, knowledgeable persons in the neighborhood, and from easily available sources and discuss about them in class with peers and teachers.

Role play, skits, cooperative learning strategies should be adopted to ensure larger participation and sharing of learning outcomes. It is advised that biographical narratives of scientists and inventors can be used. You should keep in mind that efforts should be continued for development of the process skills of science.

Which among the following is a teacher-centered objective?

1. Children identify different types of nutrition in plants.
2. Children explain various methods of getting nutrition in plants.
3. Teachers show images of autotrophic and heterotrophic nutrition.
4. Teachers explain the definition of nutrition and make students memorize it.

Options :

485584146517. 1

485584146518. 2

485584146519. 3

485584146520. 4

Question Number : 245 Question Id : 48558436630 Question Type : MCQ Option Shuffling : No Is Question Mandatory : No Calculator : None Response Time : N.A Think Time : N.A Minimum Instruction Time : 0

Correct Marks : 5 Wrong Marks : 1

Question Key Details :

Key	Value
Comprehension	Comp1

ಮೇಲಿನ ಪ್ರಾಥಮಿಕ ಮಟ್ಟದಲ್ಲಿ ಸಾಮಾನ್ಯ ಅನುಭವಗಳು, ಸರಳ ತಂತ್ರಜ್ಞಾನ ಘಟಕಗಳು ಮತ್ತು ಮಾದ್ಯೂಲಾಗಳ ವನ್ಯಾಸ ಮಾಡಲು ಕೈಗಳಿಂದ ಕಾರ್ಯ ನಿರ್ವಹಿಸುವ ಮತ್ತು ನಿರಂತರವಾಗಿ ಪರಿಸರ ಮತ್ತು ಆರೋಗ್ಯದ ಮೇಲೆ ಹೆಚ್ಚಿನ ಕಲಿಕೆ ಚಟುವಟಿಕೆ ಮತ್ತು ಸರ್ವೇಕ್ಷಣೆ ಮೂಲಕ ಕಲಿಕಾರ್ಥಿಯನ್ನು ವಿಜ್ಞಾನ ತತ್ವಗಳನ್ನು ಕಲಿಯಲು ನಿರತವಾಗುವಂತೆ ಒತ್ತು ನೀಡಲಾಗುತ್ತದೆ.

ಒಬ್ಬ ವಿಜ್ಞಾನ ಶಿಕ್ಷಕನಾಗಿ, ಕಲಿಕಾರ್ಥಿಯ ಚಟುವಟಿಕೆಗಳು ಮತ್ತು ಅನುಭವಗಳ ಮೂಲಕ ವಿಜ್ಞಾನದ ಕಲ್ಪನೆಯನ್ನು ಕಲಿತರೆ ಉತ್ತಮವಾಗಿ ಕಲಿಯುತ್ತಾನೆಂದು ನೀವು ಒಪ್ಪಿಕೊಳ್ಳುತ್ತೀರಿ. ಕಲಿಕಾರ್ಥಿಯು ತನ್ನ ಪ್ರತಿದಿನ ಅನುಭವಗಳಲ್ಲಿ ವಿಜ್ಞಾನವನ್ನು ಅನ್ವೇಷಿಸಲು ಅವಕಾಶ ನೀಡಬೇಕು. ನೀವು ಕಲಿಕಾರ್ಥಿಯನ್ನು (ಗುಂಪುಗಳಿಗೆ ಪ್ರಾಶಸ್ತ್ಯ) ಆರ್ಥಪೂರ್ಣ ಅನ್ವೇಷಣೆಗಳಲ್ಲಿ ನಿರ್ದಿಷ್ಟವಾಗಿ ಅವರ ಗಮನಾರ್ಹ ಮತ್ತು ಮಹತ್ವದ್ದು ಎಂದು ಭಾವಿಸುವ ಸಮಸ್ಯೆಗಳಲ್ಲಿ ತೊಡಗುವಂತೆ ಮಾಡಬೇಕು.

ಒಬ್ಬ ವಿಜ್ಞಾನ ಶಿಕ್ಷಕನಾಗಿ ಶಿಕ್ಷಕರು ಮತ್ತು ಸಮಾನರ ಜೊತೆ ಚರ್ಚೆಗಳನ್ನು ಪ್ರೋತ್ಸಾಹಿಸಬೇಕು. ನೀವು ನಿಮ್ಮ ಕಲಿಕಾರ್ಥಿಗೆ ವ್ಯತ್ಯಾಸಗಳಿಂದ, ಅಕ್ಕಪಕ್ಕದಲ್ಲಿ ತಿಳಿದಿರುವ ವ್ಯಕ್ತಿಗಳಿಂದ ಮತ್ತು ಗುಲಭವಾಗಿ ದೊರಕುವ ಮೂಲಗಳಿಂದ ಮಾಹಿತಿಯನ್ನು ಸಂಗ್ರಹಿಸಿ ಮತ್ತು ಅವುಗಳ ಬಗ್ಗೆ ತರಗತಿಯಲ್ಲಿ ಸಮಾನರೊಂದಿಗೆ ಮತ್ತು ಶಿಕ್ಷಕರೊಂದಿಗೆ ಚರ್ಚಿಸಲು ಹೇಳಬಹುದು. ಪಾತ್ರಗಳ ಪ್ರದರ್ಶನ, ಕಿರುನಾಟಕ, ಸಹಕಾರಿ ಕಲಿಕಾ ಕಾರ್ಯತಂತ್ರಗಳನ್ನು ಹೆಚ್ಚಿನ ಭಾಗವಹಿಸುವಿಕೆ ಮತ್ತು ಕಲಿಕಾ ಫಲಿತಾಂಶಗಳನ್ನು ಹಂಚಿಕೊಳ್ಳುವುದನ್ನು ಖಾತ್ರಿಪಡಿಸಿ ಅಳವಡಿಸಿಕೊಳ್ಳಬೇಕು. ವಿಜ್ಞಾನಿಗಳ ಮತ್ತು ಅನ್ವೇಷಕರ ಆತ್ಮಕಥೆಯನ್ನು ಬಳಸುವ ಸಲಹೆ ನೀಡಬಹುದು. ವಿಜ್ಞಾನದ ಪ್ರಕ್ರಿಯೆ ಕೌಶಲ್ಯಗಳ ನಿರಂತರ ಬೆಳವಣಿಗೆಯನ್ನು ಮನದಲ್ಲಿ ನೀವು ಇರಿಸಿಕೊಳ್ಳಬೇಕು.

ಕೆಳಗಿನವುಗಳಲ್ಲಿ ಯಾವುದು ಒಂದು ಶಿಕ್ಷಕ ಕೇಂದ್ರಿತ ಉದ್ದೇಶ?

1. ಮಕ್ಕಳು ಸಸ್ಯಗಳಲ್ಲಿ ವಿವಿಧ ರೀತಿಯ ಪೋಷಣೆಗಳನ್ನು ಗುರುತಿಸುವುದು
2. ಮಕ್ಕಳು ಸಸ್ಯಗಳಲ್ಲಿ ವಿವಿಧ ವಿಧಾನಗಳ ಪೋಷಣೆಯನ್ನು ಪಡೆಯುವುದನ್ನು ವಿವರಿಸುವುದು
3. ಶಿಕ್ಷಕರು ಸ್ವಪೋಷಿತ ಮತ್ತು ಪರಪೋಷಿತ ಪೋಷಣೆಯ ಚಿತ್ರವನ್ನು ತೋರಿಸುವುದು
4. ಶಿಕ್ಷಕರು ಪೋಷಣೆ ವ್ಯಾಖ್ಯಾನವನ್ನು ವಿವರಿಸುವುದು ಮತ್ತು ಅದನ್ನು ವಿದ್ಯಾರ್ಥಿಗಳು ನೆನಪಿನಲ್ಲಿ ಇಡುವಂತೆ ಮಾಡುವುದು

Options :

485584146517. 1

485584146518. 2

485584146519. 3

485584146520. 4

Sub-Section Number :

3

Sub-Section Id :

4855842704

Question Shuffling Allowed :

No

Is Section Default? :

null

Question Number : 246 Question Id : 48558436631 Question Type : MCQ Option Shuffling : No Is Question Mandatory : No Calculator : None Response Time : N.A Think Time : N.A Minimum Instruction Time : 0

Correct Marks : 5 Wrong Marks : 1

Question Key Details :

Key	Value
Comprehension	Comp2

The spider's web occupies a much larger space than does the animal itself. The web represents the spider's field of action in acting as a trap for insects. It is constructed according to a plan. A thread secreted by the spider joins two branches, two rocks, two supports of any kind; then he weaves the rays. The construction proceeds according to a plan. Finally the spider weaves the thread around the center, going around at an always very carefully calculated distance. If the points of support are close together, the web is small. The greater the distance of one from the other, the larger the web will be. But it will always be woven with the same exactness according to a precise plan.

As is the web, so is the mind of the child constructed according to an exact plan. The abstract construction enables him to grasp what happens in his field, which was out of his range heretofore.

Depending on whether the child lives in a simple civilisation or in a complicated world, his web will be more or less large and will enable him to attain more or fewer objectives.

This is why we must respect the interior construction and its manifestations, which may at times seem useless to us. The construction is necessary. It is thanks to this work that the child enlarges his psychic field and subsequently his receptive powers.

To consider the school as the place where instruction is given is one point of view. But to consider the school as a preparation for life is another. In the latter case the school must satisfy all the needs of life.

An education that suppresses the true nature of the child is an education that leads to the development of anomalies.

Scouting, which, outside of school, has brought an organised form of life to children, has therefore always interested us.

According to the passage, what is the significance of a spider's web to a child's education?

1. Education must be spread out in all domains.
2. Field-based learning is a crucial aspect of education.
3. The administrative web poses an impediment to education.
4. A child's mind is also constructed like a web.

Options :

- 485584146521. 1
- 485584146522. 2
- 485584146523. 3
- 485584146524. 4

Question Number : 246 Question Id : 48558436631 Question Type : MCQ Option Shuffling : No Is Question Mandatory : No Calculator : None Response Time : N.A Think Time : N.A Minimum Instruction Time : 0

Correct Marks : 5 Wrong Marks : 1

Question Key Details :

Key	Value
Comprehension	Comp2

ಜೇಡರ ಬಲೆ ಬೇಡಕ್ಕಿಂತ ಹೆಚ್ಚಿನ ಜಾಗವನ್ನು ಆಕ್ರಮಿಸುತ್ತದೆ. ಬಲೆಯು ಜೇಡದ ಕ್ಷೇತ್ರೀಯ ಕಾರ್ಯವನ್ನು ಪ್ರತಿನಿಧಿಸಿ ಕೀಟಗಳನ್ನು ಹಿಡಿಯುವ ಜಾಲವಾಗಿ ವರ್ತಿಸುತ್ತದೆ. ಇದು ಒಂದು ಯೋಜನೆ ಪ್ರಕಾರ ನಿರ್ಮಾಣವಾಗುತ್ತದೆ. ಜೇಡವು ಸ್ವವಿಸುವ ಒಂದು ಎಳೆ ಎರಡು ಕೊಂಬೆಗಳನ್ನು, ಎರಡು ಬಂಡೆಗಳನ್ನು, ಯಾವುದೇ ರೀತಿಯ ಎರಡು ಆಧಾರಗಳನ್ನು ಕೂಡಿಸಿ ನಂತರ ಕಿರಣಗಳನ್ನು ಹೆಣೆಯುತ್ತದೆ. ನಿರ್ಮಾಣವು ಒಂದುನ ಯೋಜನೆ ಪ್ರಕಾರ ಮುಂದುವರಿಯುತ್ತದೆ. ಅಂತಿಮವಾಗಿ ಜೇಡವು ಕೇಂದ್ರದ ಸುತ್ತ ಎಳೆಯನ್ನು ಹೆಣೆದು ಲೆಕ್ಕ ಹಾಕಿದ ಅಂತರದಲ್ಲಿ ಯಾವಾಗಲೂ ಅತ್ಯಂತ ಜಾಗರೂಕವಾಗಿ ಓಡಾಡುತ್ತದೆ. ಆಧಾರ ಬಿಂದುಗಳು ಹತ್ತಿರವಿದ್ದರೆ ಬಲೆಯು ಸಣ್ಣದಾಗುತ್ತದೆ. ಒಂದಕ್ಕಿಂತ ಇನ್ನೊಂದು ಹೆಚ್ಚಿನ ದೂರದಿದ್ದರೆ ಬಲೆಯು ದೊಡ್ಡದಾಗುತ್ತದೆ. ಆದರೆ ಅದು ಯಾವಾಗಲೂ ಒಂದು ನಿರ್ದಿಷ್ಟ ಯೋಜನೆಯ ಪ್ರಕಾರ ಒಂದೇ ನಿಖರತೆಯಲ್ಲಿ ಹೆಣೆಯುತ್ತದೆ.

ಬಲೆಯಿದ್ದ ಹಾಗೆ ಮಗುವಿನ ಮನಸ್ಸು ಒಂದು ನಿರ್ದಿಷ್ಟ ಯೋಜನೆಯ ಪ್ರಕಾರ ಕಟ್ಟಬೇಕು. ಸಂಕ್ಷಿಪ್ತ ನಿರ್ಮಾಣವು ಅವನಿಗೆ ತನ್ನ ಕ್ಷೇತ್ರದಲ್ಲಿ ಏನಾಗುತ್ತಿದೆ ಎಂದು ಗ್ರಹಿಸಲು ಅನುಕೂಲವಾಗುತ್ತದೆ. ತದನಂತರ ಅವನಿಗೆ ಸಿಗದಿರುವ ವ್ಯಾಪ್ತಿಯು ತಿಳಿಯುತ್ತದೆ.

ಮಗುವು ಸರಳ ನಾಗರಿಕತೆ ಅಥವಾ ಸಂಕೀರ್ಣ ಪ್ರಪಂಚದಲ್ಲಿ ಬದುಕುತ್ತಿದೆ ಎನ್ನುವ ಆಧಾರದಲ್ಲಿ, ಅವನ ಜಾಲವು ಹೆಚ್ಚು ಕಡಿಮೆ ದೊಡ್ಡದಾಗಿದ್ದು, ಮತ್ತು ಅವನಿಗೆ ಹೆಚ್ಚು ಅಥವಾ ಕಡಿಮೆ ಉದ್ದೇಶಗಳನ್ನು ತಲುಪಲು ಸಹಾಯ ಮಾಡುತ್ತದೆ. ಆದಕಾರಣದಿಂದ ನಾವು ಆಂತರಿಕ ನಿರ್ಮಾಣ ಮತ್ತು ಅವರ ವರ್ತನೆಗಳನ್ನು ಗೌರವಿಸಬೇಕು. ಅದು ಕೆಲವೊಮ್ಮೆ ನಮಗೆ ಉಪಯೋಗವಾಗುವುದಿಲ್ಲ ಎಂದೆನಿಸುತ್ತದೆ. ನಿರ್ಮಾಣವು ಅವಶ್ಯಕವಾಗಿರುತ್ತದೆ. ಈ ಕಾರ್ಯದಿಂದಾಗಿ ಮಗುವು ತನ್ನ ಮನೋಕ್ಷೇತ್ರವನ್ನು ವಿಸ್ತರಿಸಿ ಮತ್ತು ತದನಂತರ ತನ್ನ ಗ್ರಹಿಕಾ ಶಕ್ತಿಯನ್ನು ಸಹ ವಿಸ್ತರಿಸುತ್ತದೆ.

ಒಬ್ಬರ ದೃಷ್ಟಿಯಲ್ಲಿ ಶಾಲೆಯು ಒಂದು ಸೂಚನೆಗಳನ್ನು ನೀಡುವ ಸ್ಥಳ ಎಂದು ಪರಿಗಣಿಸಬೇಕು. ಆದರೆ ಜೀವನಕ್ಕೆ ಸಿದ್ಧತೆ ಎಂದು ಶಾಲೆಯನ್ನು ಪರಿಗಣಿಸುವುದು ಇನ್ನೊಂದು, ನಂತರದ ಸಂದರ್ಭದಲ್ಲಿ, ಶಾಲೆಯು ಜೀವನದ ಎಲ್ಲಾ ಅಗತ್ಯಗಳನ್ನು ಪೂರೈಸಬೇಕು.

ಯಾವ ಶಿಕ್ಷಣವು ಶಿಶುವಿನ ನಿಜ ಸ್ವಭಾವವನ್ನು ಕುರಿತು ಗೊಳಿಸುತ್ತದೆಯೋ ಅದು ನ್ಯೂನತೆಗಳ ಬೆಳವಣಿಗೆಗೆ ದಾರಿ ಮಾಡುತ್ತದೆ.

ಶಾಲೆಯ ಹೊರಗಿನ ಸ್ಕೌಟ್ ಶಿಶುವಿಗೆ ಸಂಘಟಿತ ರೀತಿ ಜೀವನವನ್ನು ನೀಡುತ್ತದೆಯಾದ್ದರಿಂದ ಅದು ನಮಗೆ ಯಾವಾಗಲೂ ಆಸಕ್ತಿದಾಯಕವಾಗಿದೆ.

ಈ ವಾಕ್ಯಪುಂಜದ ಪ್ರಕಾರ, ಮಗುವಿನ ಶಿಕ್ಷಣಕ್ಕೆ ಬೇಡರ ಬಲೆಯ ಪ್ರಾಮುಖ್ಯತೆ ಏನು?

1. ಶಿಕ್ಷಣವು ಎಲ್ಲಾ ಕ್ಷೇತ್ರಗಳಲ್ಲೂ ಹರಡಬೇಕು
2. ಕ್ಷೇತ್ರ ಆಧಾರಿತ ಕಲಿಕೆಯು ಶಿಕ್ಷಣದ ನಿರ್ಣಾಯಕ ಅಂಶ
3. ಆಡಳಿತಾತ್ಮಕ ಜಾಲವು ಶಿಕ್ಷಣಕ್ಕೆ ತಡೆಯೊಡ್ಡುತ್ತದೆ
4. ಒಂದು ಮಗುವಿನ ಮನಸ್ಸನ್ನು ಬಲೆಯ ಹಾಗೆಯೇ ಕಟ್ಟಬೇಕು

Options :

485584146521. 1
485584146522. 2
485584146523. 3
485584146524. 4

Question Number : 247 Question Id : 48558436632 Question Type : MCQ Option Shuffling : No Is Question Mandatory : No Calculator : None Response Time : N.A Think Time : N.A Minimum Instruction Time : 0

Correct Marks : 5 Wrong Marks : 1

Question Key Details :

Key	Value
Comprehension	Comp2

The spider's web occupies a much larger space than does the animal itself. The web represents the spider's field of action in acting as a trap for insects. It is constructed according to a plan. A thread secreted by the spider joins two branches, two rocks, two supports of any kind; then he weaves the rays. The construction proceeds according to a plan. Finally the spider weaves the thread around the center, going around at an always very carefully calculated distance. If the points of support are close together, the web is small. The greater the distance of one from the other, the larger the web will be. But it will always be woven with the same exactness according to a precise plan.

As is the web, so is the mind of the child constructed according to an exact plan. The abstract construction enables him to grasp what happens in his field, which was out of his range heretofore.

Depending on whether the child lives in a simple civilisation or in a complicated world, his web will be more or less large and will enable him to attain more or fewer objectives.

This is why we must respect the interior construction and its manifestations, which may at times seem useless to us. The construction is necessary. It is thanks to this work that the child enlarges his psychic field and subsequently his receptive powers.

To consider the school as the place where instruction is given is one point of view. But to consider the school as a preparation for life is another. In the latter case the school must satisfy all the needs of life.

An education that suppresses the true nature of the child is an education that leads to the development of anomalies.

Scouting, which, outside of school, has brought an organised form of life to children, has therefore always interested us.

Construction of child's mind is:

1. Independent of his context
2. dependent on school's context only
3. dependent on his context
4. dependent on his family's context only

Options :

485584146525. 1

485584146526. 2

485584146527. 3

485584146528. 4

Question Number : 247 Question Id : 48558436632 Question Type : MCQ Option Shuffling : No Is Question Mandatory : No Calculator : None Response Time : N.A Think Time : N.A Minimum Instruction Time : 0

Correct Marks : 5 Wrong Marks : 1

Question Key Details :

Key	Value
Comprehension	Comp2

ಜೇಡರ ಬಲೆ ಬೇಡಕ್ಕಿಂತ ಹೆಚ್ಚಿನ ಜಾಗವನ್ನು ಆಕ್ರಮಿಸುತ್ತದೆ. ಬಲೆಯು ಜೇಡದ ಕ್ಷೇತ್ರೀಯ ಕಾರ್ಯವನ್ನು ಪ್ರತಿನಿಧಿಸಿ ಕೀಟಗಳನ್ನು ಹಿಡಿಯುವ ಜಾಲವಾಗಿ ವರ್ತಿಸುತ್ತದೆ. ಇದು ಒಂದು ಯೋಜನೆ ಪ್ರಕಾರ ನಿರ್ಮಾಣವಾಗುತ್ತದೆ. ಜೇಡವು ಸ್ವವಿಸುವ ಒಂದು ಎಳೆ ಎರಡು ಕೊಂಬೆಗಳನ್ನು, ಎರಡು ಬಂಡೆಗಳನ್ನು, ಯಾವುದೇ ರೀತಿಯ ಎರಡು ಆಧಾರಗಳನ್ನು ಕೂಡಿಸಿ ನಂತರ ಕಿರಣಗಳನ್ನು ಹೆಣೆಯುತ್ತದೆ. ನಿರ್ಮಾಣವು ಒಂದುನ ಯೋಜನೆ ಪ್ರಕಾರ ಮುಂದುವರಿಯುತ್ತದೆ. ಅಂತಿಮವಾಗಿ ಜೇಡವು ಕೇಂದ್ರದ ಸುತ್ತ ಎಳೆಯನ್ನು ಹೆಣೆದು ಲೆಕ್ಕ ಹಾಕಿದ ಅಂತರದಲ್ಲಿ ಯಾವಾಗಲೂ ಅತ್ಯಂತ ಜಾಗರೂಕವಾಗಿ ಓಡಾಡುತ್ತದೆ. ಆಧಾರ ಬಿಂದುಗಳು ಹತ್ತಿರವಿದ್ದರೆ ಬಲೆಯು ಸಣ್ಣದಾಗುತ್ತದೆ. ಒಂದಕ್ಕಿಂತ ಇನ್ನೊಂದು ಹೆಚ್ಚಿನ ದೂರದಿದ್ದರೆ ಬಲೆಯು ದೊಡ್ಡದಾಗಿರುತ್ತದೆ. ಆದರೆ ಅದು ಯಾವಾಗಲೂ ಒಂದು ನಿರ್ದಿಷ್ಟ ಯೋಜನೆಯ ಪ್ರಕಾರ ಒಂದೇ ನಿಖರತೆಯಲ್ಲಿ ಹೆಣೆಯುತ್ತದೆ.

ಬಲೆಯಿದ್ದ ಹಾಗೆ ಮಗುವಿನ ಮನಸ್ಸು ಒಂದು ನಿರ್ದಿಷ್ಟ ಯೋಜನೆಯ ಪ್ರಕಾರ ಕಟ್ಟಬೇಕು. ಸಂಕ್ಷಿಪ್ತ ನಿರ್ಮಾಣವು ಅವನಿಗೆ ತನ್ನ ಕ್ಷೇತ್ರದಲ್ಲಿ ಏನಾಗುತ್ತಿದೆ ಎಂದು ಗ್ರಹಿಸಲು ಅನುಕೂಲವಾಗುತ್ತದೆ. ತದನಂತರ ಅವನಿಗೆ ಸಿಗದಿರುವ ವ್ಯಾಪ್ತಿಯು ತಿಳಿಯುತ್ತದೆ.

ಮಗುವು ಸರಳ ನಾಗರಿಕತೆ ಅಥವಾ ಸಂಕೀರ್ಣ ಪ್ರಪಂಚದಲ್ಲಿ ಬದುಕುತ್ತಿದೆ ಎನ್ನುವ ಆಧಾರದಲ್ಲಿ, ಅವನ ಜಾಲವು ಹೆಚ್ಚು ಕಡಿಮೆ ದೊಡ್ಡದಾಗಿದ್ದು, ಮತ್ತು ಅವನಿಗೆ ಹೆಚ್ಚು ಅಥವಾ ಕಡಿಮೆ ಉದ್ದೇಶಗಳನ್ನು ತಲುಪಲು ಸಹಾಯ ಮಾಡುತ್ತದೆ. ಆದಕಾರಣದಿಂದ ನಾವು ಆಂತರಿಕ ನಿರ್ಮಾಣ ಮತ್ತು ಅವರ ವರ್ತನೆಗಳನ್ನು ಗೌರವಿಸಬೇಕು. ಅದು ಕೆಲವೊಮ್ಮೆ ನಮಗೆ ಉಪಯೋಗವಾಗುವುದಿಲ್ಲ ಎಂದೆನಿಸುತ್ತದೆ. ನಿರ್ಮಾಣವು ಅವಶ್ಯಕವಾಗಿರುತ್ತದೆ. ಈ ಕಾರ್ಯದಿಂದಾಗಿ ಮಗುವು ತನ್ನ ಮನೋಕ್ಷೇತ್ರವನ್ನು ವಿಸ್ತರಿಸಿ ಮತ್ತು ತದನಂತರ ತನ್ನ ಗ್ರಹಿಕಾ ಶಕ್ತಿಯನ್ನು ಸಹ ವಿಸ್ತರಿಸುತ್ತದೆ.

ಒಬ್ಬರ ದೃಷ್ಟಿಯಲ್ಲಿ ಶಾಲೆಯು ಒಂದು ಸೂಚನೆಗಳನ್ನು ನೀಡುವ ಸ್ಥಳ ಎಂದು ಪರಿಗಣಿಸಬೇಕು. ಆದರೆ ಜೀವನಕ್ಕೆ ಸಿದ್ಧತೆ ಎಂದು ಶಾಲೆಯನ್ನು ಪರಿಗಣಿಸುವುದು ಇನ್ನೊಂದು, ನಂತರದ ಸಂದರ್ಭದಲ್ಲಿ, ಶಾಲೆಯು ಜೀವನದ ಎಲ್ಲಾ ಅಗತ್ಯಗಳನ್ನು ಪೂರೈಸಬೇಕು.

ಯಾವ ಶಿಕ್ಷಣವು ಶಿಶುವಿನ ನಿಜ ಸ್ವಭಾವವನ್ನು ಕುರಿತು ಗೊಳಿಸುತ್ತದೆಯೋ ಅದು ನ್ಯೂನತೆಗಳ ಬೆಳವಣಿಗೆಗೆ ದಾರಿ ಮಾಡುತ್ತದೆ.

ಶಾಲೆಯ ಹೊರಗಿನ ಸ್ಕೌಟ್ ಶಿಶುವಿಗೆ ಸಂಘಟಿತ ರೀತಿ ಜೀವನವನ್ನು ನೀಡುತ್ತದೆಯಾದ್ದರಿಂದ ಅದು ನಮಗೆ ಯಾವಾಗಲೂ ಆಸಕ್ತಿದಾಯಕವಾಗಿದೆ.

Construction of child's mind is:

1. Independent of his context
2. dependent on school's context only
3. dependent on his context
4. dependent on his family's context only

Options :

485584146525. 1
485584146526. 2
485584146527. 3
485584146528. 4

Question Number : 248 Question Id : 48558436633 Question Type : MCQ Option Shuffling : No Is Question Mandatory : No Calculator : None Response Time : N.A Think Time : N.A Minimum Instruction Time : 0

Correct Marks : 5 Wrong Marks : 1

Question Key Details :

Key	Value
Comprehension	Comp2

The spider's web occupies a much larger space than does the animal itself. The web represents the spider's field of action in acting as a trap for insects. It is constructed according to a plan. A thread secreted by the spider joins two branches, two rocks, two supports of any kind; then he weaves the rays. The construction proceeds according to a plan. Finally the spider weaves the thread around the center, going around at an always very carefully calculated distance. If the points of support are close together, the web is small. The greater the distance of one from the other, the larger the web will be. But it will always be woven with the same exactness according to a precise plan.

As is the web, so is the mind of the child constructed according to an exact plan. The abstract construction enables him to grasp what happens in his field, which was out of his range heretofore.

Depending on whether the child lives in a simple civilisation or in a complicated world, his web will be more or less large and will enable him to attain more or fewer objectives.

This is why we must respect the interior construction and its manifestations, which may at times seem useless to us. The construction is necessary. It is thanks to this work that the child enlarges his psychic field and subsequently his receptive powers.

To consider the school as the place where instruction is given is one point of view. But to consider the school as a preparation for life is another. In the latter case the school must satisfy all the needs of life.

An education that suppresses the true nature of the child is an education that leads to the development of anomalies.

Scouting, which, outside of school, has brought an organised form of life to children, has therefore always interested us.

According to the passage, what should be the aim of education?

1. Nurture the true nature of a child.
2. Overpower the interior construction of a child's mind.
3. Restrict a child's psychic field and promote scientific temperament.
4. Provide instruction and enable the child's participation in the economy.

Options :

- 485584146529. 1
- 485584146530. 2
- 485584146531. 3
- 485584146532. 4

Question Number : 248 Question Id : 48558436633 Question Type : MCQ Option Shuffling : No Is Question Mandatory : No Calculator : None Response Time : N.A Think Time : N.A Minimum Instruction Time : 0

Correct Marks : 5 Wrong Marks : 1

Question Key Details :

Key	Value
Comprehension	Comp2

ಜೇಡರ ಬಲೆ ಬೇಡಕ್ಕಿಂತ ಹೆಚ್ಚಿನ ಜಾಗವನ್ನು ಆಕ್ರಮಿಸುತ್ತದೆ. ಬಲೆಯು ಜೇಡದ ಕ್ಷೇತ್ರೀಯ ಕಾರ್ಯವನ್ನು ಪ್ರತಿನಿಧಿಸಿ ಕೀಟಗಳನ್ನು ಹಿಡಿಯುವ ಜಾಲವಾಗಿ ವರ್ತಿಸುತ್ತದೆ. ಇದು ಒಂದು ಯೋಜನೆ ಪ್ರಕಾರ ನಿರ್ಮಾಣವಾಗುತ್ತದೆ. ಜೇಡವು ಸ್ವವಿಸುವ ಒಂದು ಎಳೆ ಎರಡು ಕೊಂಬೆಗಳನ್ನು, ಎರಡು ಬಂಡೆಗಳನ್ನು, ಯಾವುದೇ ರೀತಿಯ ಎರಡು ಆಧಾರಗಳನ್ನು ಕೂಡಿಸಿ ನಂತರ ಕಿರಣಗಳನ್ನು ಹೆಣೆಯುತ್ತದೆ. ನಿರ್ಮಾಣವು ಒಂದುನ ಯೋಜನೆ ಪ್ರಕಾರ ಮುಂದುವರಿಯುತ್ತದೆ. ಅಂತಿಮವಾಗಿ ಜೇಡವು ಕೇಂದ್ರದ ಸುತ್ತ ಎಳೆಯನ್ನು ಹೆಣೆದು ಲೆಕ್ಕ ಹಾಕಿದ ಅಂತರದಲ್ಲಿ ಯಾವಾಗಲೂ ಅತ್ಯಂತ ಜಾಗರೂಕವಾಗಿ ಓಡಾಡುತ್ತದೆ. ಆಧಾರ ಬಿಂದುಗಳು ಹತ್ತಿರವಿದ್ದರೆ ಬಲೆಯು ಸಣ್ಣದಾಗುತ್ತದೆ. ಒಂದಕ್ಕಿಂತ ಇನ್ನೊಂದು ಹೆಚ್ಚಿನ ದೂರದಿದ್ದರೆ ಬಲೆಯು ದೊಡ್ಡದಾಗುತ್ತದೆ. ಆದರೆ ಅದು ಯಾವಾಗಲೂ ಒಂದು ನಿರ್ದಿಷ್ಟ ಯೋಜನೆಯ ಪ್ರಕಾರ ಒಂದೇ ನಿಖರತೆಯಲ್ಲಿ ಹೆಣೆಯುತ್ತದೆ.

ಬಲೆಯಿದ್ದ ಹಾಗೆ ಮಗುವಿನ ಮನಸ್ಸು ಒಂದು ನಿರ್ದಿಷ್ಟ ಯೋಜನೆಯ ಪ್ರಕಾರ ಕಟ್ಟಿಬೇಕು. ಸಂಕ್ಷಿಪ್ತ ನಿರ್ಮಾಣವು ಅವನಿಗೆ ತನ್ನ ಕ್ಷೇತ್ರದಲ್ಲಿ ಏನಾಗುತ್ತಿದೆ ಎಂದು ಗ್ರಹಿಸಲು ಅನುಕೂಲವಾಗುತ್ತದೆ. ತದನಂತರ ಅವನಿಗೆ ಸಿಗದಿರುವ ವ್ಯಾಪ್ತಿಯು ತಿಳಿಯುತ್ತದೆ.

ಮಗುವು ಸರಳ ನಾಗರಿಕತೆ ಅಥವಾ ಸಂಕೀರ್ಣ ಪ್ರಪಂಚದಲ್ಲಿ ಬದುಕುತ್ತಿದೆ ಎನ್ನುವ ಆಧಾರದಲ್ಲಿ, ಅವನ ಜಾಲವು ಹೆಚ್ಚು ಕಡಿಮೆ ದೊಡ್ಡದಾಗಿದ್ದು, ಮತ್ತು ಅವನಿಗೆ ಹೆಚ್ಚು ಅಥವಾ ಕಡಿಮೆ ಉದ್ದೇಶಗಳನ್ನು ತಲುಪಲು ಸಹಾಯ ಮಾಡುತ್ತದೆ. ಆದಕಾರಣದಿಂದ ನಾವು ಆಂತರಿಕ ನಿರ್ಮಾಣ ಮತ್ತು ಅವರ ವರ್ತನೆಗಳನ್ನು ಗೌರವಿಸಬೇಕು. ಅದು ಕೆಲವೊಮ್ಮೆ ನಮಗೆ ಉಪಯೋಗವಾಗುವುದಿಲ್ಲ ಎಂದೆನಿಸುತ್ತದೆ. ನಿರ್ಮಾಣವು ಅವಶ್ಯಕವಾಗಿರುತ್ತದೆ. ಈ ಕಾರ್ಯದಿಂದಾಗಿ ಮಗುವು ತನ್ನ ಮನೋಕ್ಲೇತ್ರವನ್ನು ವಿಸ್ತರಿಸಿ ಮತ್ತು ತದನಂತರ ತನ್ನ ಗ್ರಹಿಕಾ ಶಕ್ತಿಯನ್ನು ಸಹ ವಿಸ್ತರಿಸುತ್ತದೆ.

ಒಬ್ಬರ ದೃಷ್ಟಿಯಲ್ಲಿ ಶಾಲೆಯು ಒಂದು ಸೂಚನೆಗಳನ್ನು ನೀಡುವ ಸ್ಥಳ ಎಂದು ಪರಿಗಣಿಸಬೇಕು. ಆದರೆ ಜೀವನಕ್ಕೆ ಸಿದ್ಧತೆ ಎಂದು ಶಾಲೆಯನ್ನು ಪರಿಗಣಿಸುವುದು ಇನ್ನೊಂದು, ನಂತರದ ಸಂದರ್ಭದಲ್ಲಿ, ಶಾಲೆಯು ಜೀವನದ ಎಲ್ಲಾ ಅಗತ್ಯಗಳನ್ನು ಪೂರೈಸಬೇಕು.

ಯಾವ ಶಿಕ್ಷಣವು ಶಿಶುವಿನ ನಿಜ ಸ್ವಭಾವವನ್ನು ಕುರಿತು ಗೊಳಿಸುತ್ತದೆಯೋ ಅದು ನ್ಯೂನತೆಗಳ ಬೆಳವಣಿಗೆಗೆ ದಾರಿ ಮಾಡುತ್ತದೆ.

ಶಾಲೆಯ ಹೊರಗಿನ ಸ್ಕೌಟ್ ಶಿಶುವಿಗೆ ಸಂಘಟಿತ ರೀತಿ ಜೀವನವನ್ನು ನೀಡುತ್ತದೆಯಾದ್ದರಿಂದ ಅದು ನಮಗೆ ಯಾವಾಗಲೂ ಆಸಕ್ತಿದಾಯಕವಾಗಿದೆ.

ವಾಕ್ಯಪುಂಜದ ಪ್ರಕಾರ, ಶಿಕ್ಷಣದ ಉದ್ದೇಶ ಏನಾಗಿರಬೇಕು?

1. ಮಗುವಿನ ನೈಜ ಸ್ವಭಾವವನ್ನು ಪೋಷಿಸಬೇಕು
2. ಮಗುವಿನ ಆಂತರಿಕ ಮನಸ್ಸಿನ ನಿರ್ಮಾಣವನ್ನು ಹಿಮ್ಮೆಟ್ಟಿಸಬೇಕು
3. ಮಗುವಿನ ಮನೋಕ್ಲೇತ್ರವನ್ನು ಮತ್ತು ವೈಜ್ಞಾನಿಕ ಮನೋಭಾವವನ್ನು ನಿರ್ಮಿಸಬೇಕು
4. ಮಗುವಿಗೆ ಸೂಚನೆ ನೀಡಿ ಮತ್ತು ಆರ್ಥಿಕತೆಯಲ್ಲಿ ಭಾಗವಹಿಸುವಂತೆ ಸಹಾಯ ಮಾಡಬೇಕು

Options :

485584146529. 1
 485584146530. 2
 485584146531. 3
 485584146532. 4

Question Number : 249 Question Id : 48558436634 Question Type : MCQ Option Shuffling : No Is Question Mandatory : No Calculator : None Response Time : N.A Think Time : N.A Minimum Instruction Time : 0

Correct Marks : 5 Wrong Marks : 1

Question Key Details :

Key	Value
Comprehension	Comp2

The spider's web occupies a much larger space than does the animal itself. The web represents the spider's field of action in acting as a trap for insects. It is constructed according to a plan. A thread secreted by the spider joins two branches, two rocks, two supports of any kind; then he weaves the rays. The construction proceeds according to a plan. Finally the spider weaves the thread around the center, going around at an always very carefully calculated distance. If the points of support are close together, the web is small. The greater the distance of one from the other, the larger the web will be. But it will always be woven with the same exactness according to a precise plan.

As is the web, so is the mind of the child constructed according to an exact plan. The abstract construction enables him to grasp what happens in his field, which was out of his range heretofore.

Depending on whether the child lives in a simple civilisation or in a complicated world, his web will be more or less large and will enable him to attain more or fewer objectives.

This is why we must respect the interior construction and its manifestations, which may at times seem useless to us. The construction is necessary. It is thanks to this work that the child enlarges his psychic field and subsequently his receptive powers.

To consider the school as the place where instruction is given is one point of view. But to consider the school as a preparation for life is another. In the latter case the school must satisfy all the needs of life.

An education that suppresses the true nature of the child is an education that leads to the development of anomalies.

Scouting, which, outside of school, has brought an organised form of life to children, has therefore always interested us.

In the author's view, what does a limited perspective of education do to a child?

1. Enables him to grasp concepts easily.
2. Helps him to attain more objectives.
3. Suppresses his true nature.
4. Encourages his thinking abilities.

Options :

485584146533. 1

485584146534. 2

485584146535. 3

485584146536. 4

Question Number : 249 Question Id : 48558436634 Question Type : MCQ Option Shuffling : No Is Question Mandatory : No Calculator : None Response Time : N.A Think Time : N.A Minimum Instruction Time : 0

Correct Marks : 5 Wrong Marks : 1

Question Key Details :

Key	Value
Comprehension	Comp2

ಜೇಡರ ಬಲೆ ಬೇಡಕ್ಕಿಂತ ಹೆಚ್ಚಿನ ಜಾಗವನ್ನು ಆಕ್ರಮಿಸುತ್ತದೆ. ಬಲೆಯು ಜೇಡದ ಕ್ಷೇತ್ರೀಯ ಕಾರ್ಯವನ್ನು ಪ್ರತಿನಿಧಿಸಿ ಕೀಟಗಳನ್ನು ಹಿಡಿಯುವ ಜಾಲವಾಗಿ ವರ್ತಿಸುತ್ತದೆ. ಇದು ಒಂದು ಯೋಜನೆ ಪ್ರಕಾರ ನಿರ್ಮಾಣವಾಗುತ್ತದೆ. ಜೇಡವು ಸ್ವವಿಸುವ ಒಂದು ಎಳೆ ಎರಡು ಕೊಂಬೆಗಳನ್ನು, ಎರಡು ಬಂಡೆಗಳನ್ನು, ಯಾವುದೇ ರೀತಿಯ ಎರಡು ಆಧಾರಗಳನ್ನು ಕೂಡಿಸಿ ನಂತರ ಕಿರಣಗಳನ್ನು ಹೆಣೆಯುತ್ತದೆ. ನಿರ್ಮಾಣವು ಒಂದುನ ಯೋಜನೆ ಪ್ರಕಾರ ಮುಂದುವರಿಯುತ್ತದೆ. ಅಂತಿಮವಾಗಿ ಜೇಡವು ಕೇಂದ್ರದ ಸುತ್ತ ಎಳೆಯನ್ನು ಹೆಣೆದು ಲೆಕ್ಕ ಹಾಕಿದ ಅಂತರದಲ್ಲಿ ಯಾವಾಗಲೂ ಅತ್ಯಂತ ಜಾಗರೂಕವಾಗಿ ಓಡಾಡುತ್ತದೆ. ಆಧಾರ ಬಿಂದುಗಳು ಹತ್ತಿರವಿದ್ದರೆ ಬಲೆಯು ಸಣ್ಣದಾಗುತ್ತದೆ. ಒಂದಕ್ಕಿಂತ ಇನ್ನೊಂದು ಹೆಚ್ಚಿನ ದೂರದಿದ್ದರೆ ಬಲೆಯು ದೊಡ್ಡದಾಗಿರುತ್ತದೆ. ಆದರೆ ಅದು ಯಾವಾಗಲೂ ಒಂದು ನಿರ್ದಿಷ್ಟ ಯೋಜನೆಯ ಪ್ರಕಾರ ಒಂದೇ ನಿಖರತೆಯಲ್ಲಿ ಹೆಣೆಯುತ್ತದೆ.

ಬಲೆಯಿದ್ದ ಹಾಗೆ ಮಗುವಿನ ಮನಸ್ಸು ಒಂದು ನಿರ್ದಿಷ್ಟ ಯೋಜನೆಯ ಪ್ರಕಾರ ಕಟ್ಟಬೇಕು. ಸಂಕ್ಷಿಪ್ತ ನಿರ್ಮಾಣವು ಅವನಿಗೆ ತನ್ನ ಕ್ಷೇತ್ರದಲ್ಲಿ ಏನಾಗುತ್ತಿದೆ ಎಂದು ಗ್ರಹಿಸಲು ಅನುಕೂಲವಾಗುತ್ತದೆ. ತದನಂತರ ಅವನಿಗೆ ಸಿಗದಿರುವ ವ್ಯಾಪ್ತಿಯು ತಿಳಿಯುತ್ತದೆ.

ಮಗುವು ಸರಳ ನಾಗರಿಕತೆ ಅಥವಾ ಸಂಕೀರ್ಣ ಪ್ರಪಂಚದಲ್ಲಿ ಬದುಕುತ್ತಿದೆ ಎನ್ನುವ ಆಧಾರದಲ್ಲಿ, ಅವನ ಜಾಲವು ಹೆಚ್ಚು ಕಡಿಮೆ ದೊಡ್ಡದಾಗಿದ್ದು, ಮತ್ತು ಅವನಿಗೆ ಹೆಚ್ಚು ಅಥವಾ ಕಡಿಮೆ ಉದ್ದೇಶಗಳನ್ನು ತಲುಪಲು ಸಹಾಯ ಮಾಡುತ್ತದೆ. ಆದಕಾರಣದಿಂದ ನಾವು ಆಂತರಿಕ ನಿರ್ಮಾಣ ಮತ್ತು ಅವರ ವರ್ತನೆಗಳನ್ನು ಗೌರವಿಸಬೇಕು. ಅದು ಕೆಲವೊಮ್ಮೆ ನಮಗೆ ಉಪಯೋಗವಾಗುವುದಿಲ್ಲ ಎಂದೆನಿಸುತ್ತದೆ. ನಿರ್ಮಾಣವು ಅವಶ್ಯಕವಾಗಿರುತ್ತದೆ. ಈ ಕಾರ್ಯದಿಂದಾಗಿ ಮಗುವು ತನ್ನ ಮನೋಕ್ಷೇತ್ರವನ್ನು ವಿಸ್ತರಿಸಿ ಮತ್ತು ತದನಂತರ ತನ್ನ ಗ್ರಹಿಕಾ ಶಕ್ತಿಯನ್ನು ಸಹ ವಿಸ್ತರಿಸುತ್ತದೆ.

ಒಬ್ಬರ ದೃಷ್ಟಿಯಲ್ಲಿ ಶಾಲೆಯು ಒಂದು ಸೂಚನೆಗಳನ್ನು ನೀಡುವ ಸ್ಥಳ ಎಂದು ಪರಿಗಣಿಸಬೇಕು. ಆದರೆ ಜೀವನಕ್ಕೆ ಸಿದ್ಧತೆ ಎಂದು ಶಾಲೆಯನ್ನು ಪರಿಗಣಿಸುವುದು ಇನ್ನೊಂದು, ನಂತರದ ಸಂದರ್ಭದಲ್ಲಿ, ಶಾಲೆಯು ಜೀವನದ ಎಲ್ಲಾ ಅಗತ್ಯಗಳನ್ನು ಪೂರೈಸಬೇಕು.

ಯಾವ ಶಿಕ್ಷಣವು ಶಿಶುವಿನ ನಿಜ ಸ್ವಭಾವವನ್ನು ಕುರಿತು ಗೊಳಿಸುತ್ತದೆಯೋ ಅದು ನ್ಯೂನತೆಗಳ ಬೆಳವಣಿಗೆಗೆ ದಾರಿ ಮಾಡುತ್ತದೆ.

ಶಾಲೆಯ ಹೊರಗಿನ ಸ್ಕೌಟ್ ಶಿಶುವಿಗೆ ಸಂಘಟಿತ ರೀತಿ ಜೀವನವನ್ನು ನೀಡುತ್ತದೆಯಾದ್ದರಿಂದ ಅದು ನಮಗೆ ಯಾವಾಗಲೂ ಆಸಕ್ತಿದಾಯಕವಾಗಿದೆ.

ಲೇಖಕನ ದೃಷ್ಟಿಯಲ್ಲಿ ಒಂದು ಮಗುವಿಗೆ ಶಿಕ್ಷಣದ ಸೀಮಿತ ದೃಷ್ಟಿಕೋಮ ಏನಾಗುತ್ತದೆ?

1. ಅವನಿಗೆ ಪರಿಕಲ್ಪನೆಗಳನ್ನು ಸುಲಭವಾಗಿ ಗ್ರಹಿಸಲು ಅನುಕೂಲವಾಗುತ್ತದೆ
2. ಹೆಚ್ಚಿನ ಉದ್ದೇಶಗಳನ್ನು ತಲುಪಲು ಅವನಿಗೆ ಸಹಾಯ ಮಾಡುತ್ತದೆ
3. ಅವನ ನೈಜ ಸ್ವಭಾವವನ್ನು ಕುರಿತು ಗೊಳಿಸುತ್ತದೆ
4. ಅವನ ಆಲೋಚನಾ ಸಾಮರ್ಥ್ಯವನ್ನು ಪ್ರೋತ್ಸಾಹಿಸುತ್ತದೆ

Options :

485584146533. 1
 485584146534. 2
 485584146535. 3
 485584146536. 4

Question Number : 250 Question Id : 48558436635 Question Type : MCQ Option Shuffling : No Is Question Mandatory : No Calculator : None Response Time : N.A Think Time : N.A Minimum Instruction Time : 0

Correct Marks : 5 Wrong Marks : 1

Question Key Details :

Key	Value
Comprehension	Comp2

The spider's web occupies a much larger space than does the animal itself. The web represents the spider's field of action in acting as a trap for insects. It is constructed according to a plan. A thread secreted by the spider joins two branches, two rocks, two supports of any kind; then he weaves the rays. The construction proceeds according to a plan. Finally the spider weaves the thread around the center, going around at an always very carefully calculated distance. If the points of support are close together, the web is small. The greater the distance of one from the other, the larger the web will be. But it will always be woven with the same exactness according to a precise plan.

As is the web, so is the mind of the child constructed according to an exact plan. The abstract construction enables him to grasp what happens in his field, which was out of his range heretofore.

Depending on whether the child lives in a simple civilisation or in a complicated world, his web will be more or less large and will enable him to attain more or fewer objectives.

This is why we must respect the interior construction and its manifestations, which may at times seem useless to us. The construction is necessary. It is thanks to this work that the child enlarges his psychic field and subsequently his receptive powers.

To consider the school as the place where instruction is given is one point of view. But to consider the school as a preparation for life is another. In the latter case the school must satisfy all the needs of life.

An education that suppresses the true nature of the child is an education that leads to the development of anomalies.

Scouting, which, outside of school, has brought an organised form of life to children, has therefore always interested us.

Which of the following are characteristics of the construction of a child's mind ?

- A. Moving outside the school restricts a child's mind.
- B. A child's mind is constructed according to a precise plan.
- C. Organisation of a child's mind may affect its receptive abilities.
- D. Inhibiting a child's true nature can lead to the development of abnormality.
- E. Concrete construction enables it to access different kinds of knowledge.

Choose the correct answer from the options given below:

1. A, C and D only
2. A, B and C only
3. B, C and D only
4. B, C, D and E only

Options :

- 485584146537. 1
- 485584146538. 2
- 485584146539. 3
- 485584146540. 4

Question Number : 250 Question Id : 48558436635 Question Type : MCQ Option Shuffling : No Is Question Mandatory : No Calculator : None Response Time : N.A Think Time : N.A Minimum Instruction Time : 0

Correct Marks : 5 Wrong Marks : 1

Question Key Details :

Key	Value
Comprehension	Comp2

ಜೇಡರ ಬಲೆ ಬೇಡಕ್ಕಿಂತ ಹೆಚ್ಚಿನ ಜಾಗವನ್ನು ಆಕ್ರಮಿಸುತ್ತದೆ. ಬಲೆಯು ಜೇಡದ ಕ್ಷೇತ್ರೀಯ ಕಾರ್ಯವನ್ನು ಪ್ರತಿನಿಧಿಸಿ ಕೀಟಗಳನ್ನು ಹಿಡಿಯುವ ಜಾಲವಾಗಿ ವರ್ತಿಸುತ್ತದೆ. ಇದು ಒಂದು ಯೋಜನೆ ಪ್ರಕಾರ ನಿರ್ಮಾಣವಾಗುತ್ತದೆ. ಜೇಡವು ಸ್ವವಿಸುವ ಒಂದು ಎಳೆ ಎರಡು ಕೊಂಬೆಗಳನ್ನು, ಎರಡು ಬಂಡೆಗಳನ್ನು, ಯಾವುದೇ ರೀತಿಯ ಎರಡು ಆಧಾರಗಳನ್ನು ಕೂಡಿಸಿ ನಂತರ ಕಿರಣಗಳನ್ನು ಹೆಣೆಯುತ್ತದೆ. ನಿರ್ಮಾಣವು ಒಂದುನ ಯೋಜನೆ ಪ್ರಕಾರ ಮುಂದುವರಿಯುತ್ತದೆ. ಅಂತಿಮವಾಗಿ ಜೇಡವು ಕೇಂದ್ರದ ಸುತ್ತ ಎಳೆಯನ್ನು ಹೆಣೆದು ಲೆಕ್ಕ ಹಾಕಿದ ಅಂತರದಲ್ಲಿ ಯಾವಾಗಲೂ ಅತ್ಯಂತ ಜಾಗರೂಕವಾಗಿ ಓಡಾಡುತ್ತದೆ. ಆಧಾರ ಬಿಂದುಗಳು ಹತ್ತಿರವಿದ್ದರೆ ಬಲೆಯು ಸಣ್ಣದಾಗುತ್ತದೆ. ಒಂದಕ್ಕಿಂತ ಇನ್ನೊಂದು ಹೆಚ್ಚಿನ ದೂರದಿದ್ದರೆ ಬಲೆಯು ದೊಡ್ಡದಾಗಿರುತ್ತದೆ. ಆದರೆ ಅದು ಯಾವಾಗಲೂ ಒಂದು ನಿರ್ದಿಷ್ಟ ಯೋಜನೆಯ ಪ್ರಕಾರ ಒಂದೇ ನಿಖರತೆಯಲ್ಲಿ ಹೆಣೆಯುತ್ತದೆ.

ಬಲೆಯಿದ್ದ ಹಾಗೆ ಮಗುವಿನ ಮನಸ್ಸು ಒಂದು ನಿರ್ದಿಷ್ಟ ಯೋಜನೆಯ ಪ್ರಕಾರ ಕಟ್ಟಬೇಕು. ಸಂಕ್ಷಿಪ್ತ ನಿರ್ಮಾಣವು ಅವನಿಗೆ ತನ್ನ ಕ್ಷೇತ್ರದಲ್ಲಿ ಏನಾಗುತ್ತಿದೆ ಎಂದು ಗ್ರಹಿಸಲು ಅನುಕೂಲವಾಗುತ್ತದೆ. ತದನಂತರ ಅವನಿಗೆ ಸಿಗದಿರುವ ವ್ಯಾಪ್ತಿಯು ತಿಳಿಯುತ್ತದೆ.

ಮಗುವು ಸರಳ ನಾಗರಿಕತೆ ಅಥವಾ ಸಂಕೀರ್ಣ ಪ್ರಪಂಚದಲ್ಲಿ ಬದುಕುತ್ತಿದೆ ಎನ್ನುವ ಆಧಾರದಲ್ಲಿ, ಅವನ ಜಾಲವು ಹೆಚ್ಚು ಕಡಿಮೆ ದೊಡ್ಡದಾಗಿದ್ದು, ಮತ್ತು ಅವನಿಗೆ ಹೆಚ್ಚು ಅಥವಾ ಕಡಿಮೆ ಉದ್ದೇಶಗಳನ್ನು ತಲುಪಲು ಸಹಾಯ ಮಾಡುತ್ತದೆ. ಆದಕಾರಣದಿಂದ ನಾವು ಆಂತರಿಕ ನಿರ್ಮಾಣ ಮತ್ತು ಅವರ ವರ್ತನೆಗಳನ್ನು ಗೌರವಿಸಬೇಕು. ಅದು ಕೆಲವೊಮ್ಮೆ ನಮಗೆ ಉಪಯೋಗವಾಗುವುದಿಲ್ಲ ಎಂದೆನಿಸುತ್ತದೆ. ನಿರ್ಮಾಣವು ಅವಶ್ಯಕವಾಗಿರುತ್ತದೆ. ಈ ಕಾರ್ಯದಿಂದಾಗಿ ಮಗುವು ತನ್ನ ಮನೋಕೈಶ್ರವನ್ನು ವಿಸ್ತರಿಸಿ ಮತ್ತು ತದನಂತರ ತನ್ನ ಗ್ರಹಿಕಾ ಶಕ್ತಿಯನ್ನು ಸಹ ವಿಸ್ತರಿಸುತ್ತದೆ.

ಒಬ್ಬರ ದೃಷ್ಟಿಯಲ್ಲಿ ಶಾಲೆಯು ಒಂದು ಸೂಚನೆಗಳನ್ನು ನೀಡುವ ಸ್ಥಳ ಎಂದು ಪರಿಗಣಿಸಬೇಕು. ಆದರೆ ಜೀವನಕ್ಕೆ ಸಿದ್ಧತೆ ಎಂದು ಶಾಲೆಯನ್ನು ಪರಿಗಣಿಸುವುದು ಇನ್ನೊಂದು, ನಂತರದ ಸಂದರ್ಭದಲ್ಲಿ ಶಾಲೆಯು ಜೀವನದ ಎಲ್ಲಾ ಅಗತ್ಯಗಳನ್ನು ಪೂರೈಸಬೇಕು.

ಯಾವ ಶಿಕ್ಷಣವು ಶಿಶುವಿನ ನಿಜ ಸ್ವಭಾವವನ್ನು ಕುರಿತು ಗೊಳಿಸುತ್ತದೆಯೋ ಅದು ನ್ಯೂನತೆಗಳ ಬೆಳವಣಿಗೆಗೆ ದಾರಿ ಮಾಡುತ್ತದೆ.

ಶಾಲೆಯ ಹೊರಗಿನ ಸ್ಕಾಟ್ ಶಿಶುವಿಗೆ ಸಂಘಟಿತ ರೀತಿ ಜೀವನವನ್ನು ನೀಡುತ್ತದೆಯಾದ್ದರಿಂದ ಅದು ನಮಗೆ ಯಾವಾಗಲೂ ಆಸಕ್ತಿದಾಯಕವಾಗಿದೆ.

ಕೆಳಗಿನವುಗಳಲ್ಲಿ ಯಾವುದು ಮಗುವಿನ ಮನಸ್ಸಿನ ನಿರ್ಮಾಣದಲ್ಲಿನ ಗುಣಲಕ್ಷಣಗಳು?

- A. ಶಾಲೆಯ ಹೊರಗಿನ ಚಲನೆ ಮಗುವಿನ ಮನಸ್ಸನ್ನು ನಿರ್ಬಂಧಿಸುತ್ತದೆ.
- B. ಒಂದು ಮಗುವಿನ ಮನಸ್ಸನ್ನು ಒಂದು ನಿರ್ದಿಷ್ಟ ಯೋಜನೆ ಪ್ರಕಾರ ಕಟ್ಟಬೇಕು.
- C. ಒಂದು ಮಗುವಿನ ಮನಸ್ಸಿನ ಸಂಘಟನೆಯು ಅವರ ಗ್ರಹಿಕಾ ಸಾಮರ್ಥ್ಯದ ಮೇಲೆ ಪರಿಣಾಮ ಬೀರುತ್ತದೆ.
- D. ಮಗುವಿನ ನೈಜ ಸ್ವಭಾವವನ್ನು ನಿಗ್ರಹಿಸುವುದು ನ್ಯೂನತೆ ಬೆಳವಣಿಗೆಗೆ ದಾರಿ ಮಾಡುತ್ತದೆ.
- E. ಸ್ಥಿರ ನಿರ್ಮಾಣವು ವಿವಿಧ ರೀತಿಯಲ್ಲಿ ಜ್ಞಾನವನ್ನು ತಲುಪಲು ಸಹಾಯ ಮಾಡುತ್ತದೆ.

ಈ ಕೆಳಗಿನ ಆಯ್ಕೆಗಳಿಂದ ಸರಿಯಾದ ಉತ್ತರವನ್ನು ಆರಿಸಿ:

1. A, C ಮತ್ತು D ಮಾತ್ರ
2. A, B ಮತ್ತು C ಮಾತ್ರ
3. B, C ಮತ್ತು D ಮಾತ್ರ
4. B, C, D ಮತ್ತು E ಮಾತ್ರ

Options :

485584146537. 1

485584146538. 2

485584146539. 3

485584146540. 4