

National Testing Agency

Question Paper Name : 22S3
Subject Name : 22Jun2023 Shift3 Subject Combination 1
Creation Date : 2023-06-22 20:03:07
Duration : 270
Total Marks : 1200
Display Marks: Yes

Tibetan

Group Number : 1
Group Id : 485584821
Group Maximum Duration : 45
Group Minimum Duration : 45
Show Attended Group? : No
Edit Attended Group? : No
Break time : 0
Group Marks : 200
Is this Group for Examiner? : No
Examiner permission : Cant View
Show Progress Bar? : No

Tibetan

Section Id : 485584945
Section Number : 1
Section type : Online
Mandatory or Optional : Mandatory
Number of Questions : 50
Number of Questions to be attempted : 40
Section Marks : 200
Enable Mark as Answered Mark for Review and Clear Response : Yes
Maximum Instruction Time : 0
Sub-Section Number : 1
Sub-Section Id : 4855842686
Question Shuffling Allowed : No
Is Section Default? : null
Sub-Section Number : 2
Sub-Section Id : 4855842687
Question Shuffling Allowed : No
Is Section Default? : null
Sub-Section Number : 3
Sub-Section Id : 4855842688
Question Shuffling Allowed : No
Is Section Default? : null
Sub-Section Number : 4
Sub-Section Id : 4855842689
Question Shuffling Allowed : Yes
Is Section Default? : null

Biology

Group Number : 2
Group Id : 485584822
Group Maximum Duration : 45
Group Minimum Duration : 45
Show Attended Group? : No
Edit Attended Group? : No

Break time : 0
Group Marks : 200
Is this Group for Examiner? : No
Examiner permission : Cant View
Show Progress Bar? : No

Biology

Section Id : 485584946
Section Number : 1
Section type : Online
Mandatory or Optional : Mandatory
Number of Questions : 50
Number of Questions to be attempted : 40
Section Marks : 200
Enable Mark as Answered Mark for Review and Clear Response : Yes
Maximum Instruction Time : 0
Sub-Section Number : 1
Sub-Section Id : 4855842690
Question Shuffling Allowed : Yes
Is Section Default? : null

Question Number : 1 Question Id : 48558436386 Question Type : MCQ Option Shuffling : No Is Question Mandatory : No Calculator : None
Response Time : N.A Think Time : N.A Minimum Instruction Time : 0
Correct Marks : 5 Wrong Marks : 1

Question Key Details :

Key	Value
Comprehension	MCQ

Number of chromosomes found in rice gamete is:

1. 8
2. 10
3. 12
4. 14

Options :

485584145541. 1
485584145542. 2
485584145543. 3
485584145544. 4

Question Number : 1 Question Id : 48558436386 Question Type : MCQ Option Shuffling : No Is Question Mandatory : No Calculator : None
Response Time : N.A Think Time : N.A Minimum Instruction Time : 0
Correct Marks : 5 Wrong Marks : 1

Question Key Details :

Key	Value
Comprehension	MCQ

നെന്ത് ഗാമറ്റിൽ എത്ര ക്രോമസോമുകൾ കാണുന്നു.

1. 8
2. 10
3. 12
4. 14

Options :

485584145541. 1

485584145542. 2
 485584145543. 3
 485584145544. 4

Question Number : 2 Question Id : 48558436387 Question Type : MCQ Option Shuffling : No Is Question Mandatory : No Calculator : None
 Response Time : N.A Think Time : N.A Minimum Instruction Time : 0

Correct Marks : 5 Wrong Marks : 1

Question Key Details :

Key	Value
Comprehension	MCQ

Match List I with List II

LIST I (Vegetative propagules)	LIST II (Example)
A. Leaf buds	I. Water hyacinth
B. Rhizome	II. Agave
C. Offset	III. Ginger
D. Bulb	IV. Bryophyllum

Choose the correct answer from the options given below:

1. A-III, B-IV, C-II, D-I
2. A-II, B-IV, C-I, D-III
3. A-IV, B-III, C-I, D-II
4. A-III, B-II, C-IV, D-I

Options :

485584145545. 1
 485584145546. 2
 485584145547. 3
 485584145548. 4

Question Number : 2 Question Id : 48558436387 Question Type : MCQ Option Shuffling : No Is Question Mandatory : No Calculator : None
 Response Time : N.A Think Time : N.A Minimum Instruction Time : 0

Correct Marks : 5 Wrong Marks : 1

Question Key Details :

Key	Value
Comprehension	MCQ

ഒന്നും രണ്ടും പട്ടികകൾ ഒത്തുനോക്കുക

പട്ടിക I (Vegetative propagules)	പട്ടിക II (Example)
A. ഇലമൊട്ടുകൾ	I. വാട്ടർ ഹയാന്റിസ്
B. നിരസാം	II. അഗവെ
C. ഓഫ്സെറ്റ്	III. ഇഞ്ചി
D. ബുൾബിൽ	IV. ബ്രോഫില്ലം

താഴെ കൊടുത്തിരിക്കുന്നവയിൽ ശരിയായവ തിരഞ്ഞെടുക്കുക :

1. A-III, B-IV, C-II, D-I
2. A-II, B-IV, C-I, D-III
3. A-IV, B-III, C-I, D-II
4. A-III, B-II, C-IV, D-I

Options :

485584145545. 1
 485584145546. 2

485584145547. 3
485584145548. 4

Question Number : 3 Question Id : 48558436388 Question Type : MCQ Option Shuffling : No Is Question Mandatory : No Calculator : None
Response Time : N.A Think Time : N.A Minimum Instruction Time : 0
Correct Marks : 5 Wrong Marks : 1

Question Key Details :

Key	Value
Comprehension	MCQ

Residual and persistent nucellus present in some seeds is called:

1. Seed coat
2. Pericarp
3. Perisperm
4. Achene

Options :

485584145549. 1
485584145550. 2
485584145551. 3
485584145552. 4

Question Number : 3 Question Id : 48558436388 Question Type : MCQ Option Shuffling : No Is Question Mandatory : No Calculator : None
Response Time : N.A Think Time : N.A Minimum Instruction Time : 0

Correct Marks : 5 Wrong Marks : 1

Question Key Details :

Key	Value
Comprehension	MCQ

ചില വിത്തുകളിൽ കാണുന്ന റസിഡ്യാൽ ആന്റ് പെർസിസ്റ്റന്റ് ന്യൂസെല്ലസിനെ വിളിക്കുന്നത്

1. സീഡ്കോട്ട്
2. പെരികാർപ്പ്
3. പെരിസ്പെർം
4. അക്നീൻ

Options :

485584145549. 1
485584145550. 2
485584145551. 3
485584145552. 4

Question Number : 4 Question Id : 48558436389 Question Type : MCQ Option Shuffling : No Is Question Mandatory : No Calculator : None
Response Time : N.A Think Time : N.A Minimum Instruction Time : 0

Correct Marks : 5 Wrong Marks : 1

Question Key Details :

Key	Value
Comprehension	MCQ

The wall layer which provides nourishment to the developing pollen grains is called:

1. Epidermis
2. Endothecium
3. Middle Layer
4. Tapetum

Options :

- 485584145553. 1
- 485584145554. 2
- 485584145555. 3
- 485584145556. 4

Question Number : 4 Question Id : 48558436389 Question Type : MCQ Option Shuffling : No Is Question Mandatory : No Calculator : None Response Time : N.A Think Time : N.A Minimum Instruction Time : 0

Correct Marks : 5 Wrong Marks : 1

Question Key Details :

Key	Value
Comprehension	MCQ

ധാന്യത്തിൽ വളർന്നുവരുന്ന പരാഗത്തിന് പോഷകം നൽകുന്ന കവച (വാൾ ലെയർ) ത്തിനെ വിളിക്കുന്നത്

1. എപി ഡെർമിസ്
2. എൻഡോതിസിയം
3. മിഡിൽ ലെയർ
4. ടാപെറ്റം

Options :

- 485584145553. 1
- 485584145554. 2
- 485584145555. 3
- 485584145556. 4

Question Number : 5 Question Id : 48558436390 Question Type : MCQ Option Shuffling : No Is Question Mandatory : No Calculator : None Response Time : N.A Think Time : N.A Minimum Instruction Time : 0

Correct Marks : 5 Wrong Marks : 1

Question Key Details :

Key	Value
Comprehension	MCQ

Spermiation is the _____

1. Process of release of sperms from the seminiferous tubules
2. Process of formation of sperms
3. Transformation of spermatids into sperms
4. Process of formation of spermatogonia

Options :

- 485584145557. 1
- 485584145558. 2
- 485584145559. 3
- 485584145560. 4

Question Number : 5 Question Id : 48558436390 Question Type : MCQ Option Shuffling : No Is Question Mandatory : No Calculator : None Response Time : N.A Think Time : N.A Minimum Instruction Time : 0

Correct Marks : 5 Wrong Marks : 1

Question Key Details :

Key	Value
Comprehension	MCQ

സ്പെർമിയോസൻ എന്ന് _____

1. സെമിനാഫെറസ് ട്യൂബ്യൂൾസിൽ നിന്ന് ബീജം പുറത്ത് വിടുന്ന പ്രക്രിയ
2. ബീജം രൂപപ്പെടുന്ന പ്രക്രിയ
3. ശുക്ലം ബീജമായി മാറുന്ന പ്രക്രിയ
4. ശുക്ലാൽപാദന (സ്പെർമാറ്റോജനിയ) പ്രക്രിയ

Options :

- 485584145557. 1
- 485584145558. 2
- 485584145559. 3
- 485584145560. 4

Question Number : 6 Question Id : 48558436391 Question Type : MCQ Option Shuffling : No Is Question Mandatory : No Calculator : None Response Time : N.A Think Time : N.A Minimum Instruction Time : 0

Correct Marks : 5 Wrong Marks : 1

Question Key Details :

Key	Value
Comprehension	MCQ

Which of the following hormones are secreted by placenta?

- A. hCG
- B. hPL
- C. Estrogens
- D. Progestogens
- E. Relaxin

Choose the correct answer from the options given below:

1. A, B, and E only
2. A, B, C and E only
3. A, B, D and E only
4. A, B, C and D only

Options :

- 485584145561. 1
- 485584145562. 2
- 485584145563. 3
- 485584145564. 4

Question Number : 6 Question Id : 48558436391 Question Type : MCQ Option Shuffling : No Is Question Mandatory : No Calculator : None Response Time : N.A Think Time : N.A Minimum Instruction Time : 0

Correct Marks : 5 Wrong Marks : 1

Question Key Details :

Key	Value
Comprehension	MCQ

മനുഷ്യർ (പുരുഷൻ) ഉൽപ്പാദിപ്പിക്കുന്ന ഹോർമോൺ

- A. എച്ച് സി ജി
- B. എച്ച് പി എൽ
- C. ഇൻട്രജൻസ്
- D. പ്രൊജെസ്റ്റോജൻസ്
- E. നിലാക്സിൻ

താഴെ കൊടുത്തിരിക്കുന്നവയിൽ നിന്നും ശരിയായ ഉത്തരം തിരഞ്ഞെടുക്കുക:

- 1. A, B and E only
- 2. A, B and E only
- 3. A, B, D and E only
- 4. A, B, C and D only

Options :

- 485584145561. 1
- 485584145562. 2
- 485584145563. 3
- 485584145564. 4

Question Number : 7 Question Id : 48558436392 Question Type : MCQ Option Shuffling : No Is Question Mandatory : No Calculator : None Response Time : N.A Think Time : N.A Minimum Instruction Time : 0

Correct Marks : 5 Wrong Marks : 1

Question Key Details :

Key	Value
Comprehension	MCQ

Which of the following disease is completely curable if detected early?

- 1. Genital herpes
- 2. HIV infections
- 3. Hepatitis-B
- 4. Trichomoniasis

Options :

- 485584145565. 1
- 485584145566. 2
- 485584145567. 3
- 485584145568. 4

Question Number : 7 Question Id : 48558436392 Question Type : MCQ Option Shuffling : No Is Question Mandatory : No Calculator : None Response Time : N.A Think Time : N.A Minimum Instruction Time : 0

Correct Marks : 5 Wrong Marks : 1

Question Key Details :

Key	Value
Comprehension	MCQ

നേരത്തെ കണ്ടെത്തുന്ന പക്ഷമി പുരീണ്ണമായും രേദമാക്കാൻ കഴിയുന്ന അസുഖം

1. ജനിറ്റൽ ഹെർപ്പിസ്
2. എച്ച്ഐവി അണുബാധ
3. ഹെപ്പറ്റൈറ്റിസ് - ബി
4. ട്രൈക്കോമോണിയാസിസ്

Options :

- 485584145565. 1
- 485584145566. 2
- 485584145567. 3
- 485584145568. 4

Question Number : 8 Question Id : 48558436393 Question Type : MCQ Option Shuffling : No Is Question Mandatory : No Calculator : None Response Time : N.A Think Time : N.A Minimum Instruction Time : 0

Correct Marks : 5 Wrong Marks : 1

Question Key Details :

Key	Value
Comprehension	MCQ

Identify the terminal methods to prevent pregnancy.

- A. Tubectomy
- B. Vasectomy
- C. IUDs
- D. Cervical caps

Choose the correct answer from the options given below:

1. A and D only
2. A and C only
3. B and D only
4. A and B only

Options :

- 485584145569. 1
- 485584145570. 2
- 485584145571. 3
- 485584145572. 4

Question Number : 8 Question Id : 48558436393 Question Type : MCQ Option Shuffling : No Is Question Mandatory : No Calculator : None Response Time : N.A Think Time : N.A Minimum Instruction Time : 0

Correct Marks : 5 Wrong Marks : 1

Question Key Details :

Key	Value
Comprehension	MCQ

ഗർഭധാരണം പൂർണ്ണമായും തടയുന്നതിന് ചെയ്യാവുന്നത്

- A. ട്യൂബക്ടോമി
- B. വാസക്ടമി
- C. ഐ.യു.ഡി.ൻ
- D. സെർവിക്കൽ കാപ്പ്

താഴെ കൊടുത്തിരിക്കുന്നവയിൽ നിന്നും ശരിയായ ഉത്തരം തിരഞ്ഞെടുക്കുക:

- 1. A and D only
- 2. A and C only
- 3. B and D only
- 4. A and B only

Options :

- 485584145569. 1
- 485584145570. 2
- 485584145571. 3
- 485584145572. 4

Question Number : 9 Question Id : 48558436394 Question Type : MCQ Option Shuffling : No Is Question Mandatory : No Calculator : None Response Time : N.A Think Time : N.A Minimum Instruction Time : 0

Correct Marks : 5 Wrong Marks : 1

Question Key Details :

Key	Value
Comprehension	MCQ

The person with karyotype 44+XXY is suffering from:

- 1. Down's Syndrome
- 2. Klinefelter's Syndrome
- 3. Turner's Syndrome
- 4. Edward's Syndrome

Options :

- 485584145573. 1
- 485584145574. 2
- 485584145575. 3
- 485584145576. 4

Question Number : 9 Question Id : 48558436394 Question Type : MCQ Option Shuffling : No Is Question Mandatory : No Calculator : None Response Time : N.A Think Time : N.A Minimum Instruction Time : 0

Correct Marks : 5 Wrong Marks : 1

Question Key Details :

Key	Value
Comprehension	MCQ

കാർയോടൈപ്പ് 44+XXY ഉള്ള മനുഷ്യൻ നേരിടുന്നത് :

- 1. ഡൗണസ് സിൻഡ്രോം
- 2. ക്ലൈഫെൽസ് സിൻഡ്രോം
- 3. ടർണർസ് സിൻഡ്രോം
- 4. എഡ്വേർഡ്സ് സിൻഡ്രോം

Options :

- 485584145573. 1
- 485584145574. 2
- 485584145575. 3
- 485584145576. 4

Question Number : 10 Question Id : 48558436395 Question Type : MCQ Option Shuffling : No Is Question Mandatory : No Calculator : None Response Time : N.A Think Time : N.A Minimum Instruction Time : 0

Correct Marks : 5 Wrong Marks : 1

Question Key Details :

Key	Value
Comprehension	MCQ

Select the mendelian disorders from the following:

- A. Thalassemia
- B. Turner's Syndrome
- C. Cystic Fibrosis
- D. Sickle cell anaemia

Choose the *correct answer* from the options given below:

- 1. B and D only
- 2. A, C and D only
- 3. B, C and D only
- 4. A and D only

Options :

- 485584145577. 1
- 485584145578. 2
- 485584145579. 3
- 485584145580. 4

Question Number : 10 Question Id : 48558436395 Question Type : MCQ Option Shuffling : No Is Question Mandatory : No Calculator : None Response Time : N.A Think Time : N.A Minimum Instruction Time : 0

Correct Marks : 5 Wrong Marks : 1

Question Key Details :

Key	Value
Comprehension	MCQ

താഴെ പറയുന്നവയിൽ നിന്ന് മെൻഡലിയൻ തകരാർ കണ്ടെത്തുക

- A. തലസ്തീമിയ
- B. ടർണർ സിൻഡ്രോം
- C. സിസ്റ്റിക് ഫൈബ്രോസിസ്
- D. അരിവാൾ രോഗം (സിക്കിൾ സെൽ അനീമിയ)

താഴെ കൊടുത്തിരിക്കുന്നവയിൽ നിന്നും ശരിയായ ഉത്തരം തിരഞ്ഞെടുക്കുക:

- 1. B, D only
- 2. A, C, D only
- 3. B, C, D only
- 4. A, D only

Options :

- 485584145577. 1
- 485584145578. 2
- 485584145579. 3

Question Number : 11 Question Id : 48558436396 Question Type : MCQ Option Shuffling : No Is Question Mandatory : No Calculator : None
 Response Time : N.A Think Time : N.A Minimum Instruction Time : 0

Correct Marks : 5 Wrong Marks : 1

Question Key Details :

Key	Value
Comprehension	MCQ

Match List I with List II

LIST I		LIST II	
A.	Phenotype reflects the contribution of each allele	I.	Pleiotropy
B.	Multiple phenotypic expressions by a single gene	II.	Linkage
C.	Generation of non-parental gene combinations	III.	Polygenic inheritance
D.	Parental gene combinations higher than non-parental type in F_2 progeny	IV.	Recombination

Choose the correct answer from the options given below:

1. A-III, B-I, C-IV, D-II
2. A-I, B-IV, C-II, D-III
3. A-III, B-IV, C-I, D-II
4. A-I, B-III, C-II, D-IV

Options :

485584145581. 1
 485584145582. 2
 485584145583. 3
 485584145584. 4

Question Number : 11 Question Id : 48558436396 Question Type : MCQ Option Shuffling : No Is Question Mandatory : No Calculator : None
 Response Time : N.A Think Time : N.A Minimum Instruction Time : 0

Correct Marks : 5 Wrong Marks : 1

Question Key Details :

Key	Value
Comprehension	MCQ

പട്ടിക ഒന്നും പട്ടിക രണ്ടും തമ്മിൽ ഒത്തുനോക്കുക.

പട്ടിക I		പട്ടിക II	
A.	ഓരോ അല്ലെലയുടെയും സംഭാവന ഫിനോടൈപ്പിഫിക്കേഷനിലൂടെയും	I.	പ്ലൈയോമർഫി
B.	പ്രകൃതിജീവന്റെ മൾട്ടിപ്പിൾ ഫിനോടൈപ്പിക് വ്യക്തീകരണം	II.	ലിങ്കേജ്
C.	മനോൺപാരന്റൽ ജനിതക സങ്കലനങ്ങളുടെ ഉൽപ്പാദനം	III.	മപാളിജൈനിക് ഇൻഫെനിട്ടൻസ്
D.	പിപി 2 മപാട്ടോജൈനിയിൽ പാരന്റൽ ജീൻ സങ്കലനം മനോൺ പാരന്റൽ ടൈപ്പിമനക്കാൾ കൂടുതലാവുക	IV.	റിക്രോമ്പിന്റേഷൻ

താഴെ കൊടുത്തിരിക്കുന്നവയിൽ നിന്നും ശരിയായ ഉത്തരം തിരഞ്ഞെടുക്കുക:

1. A-III, B-I, C-IV, D-II
2. A-I, B-IV, C-II, D-III
3. A-III, B-IV, C-I, D-II
4. A-I, B-III, C-II, D-IV

Options :

- 485584145581. 1
- 485584145582. 2
- 485584145583. 3
- 485584145584. 4

Question Number : 12 Question Id : 48558436397 Question Type : MCQ Option Shuffling : No Is Question Mandatory : No Calculator : None Response Time : N.A Think Time : N.A Minimum Instruction Time : 0

Correct Marks : 5 Wrong Marks : 1

Question Key Details :

Key	Value
Comprehension	MCQ

Point mutations means:

1. Change in one base pair
2. Change in one allele
3. Change of base pair at a location without any significance
4. Addition or deletion of codons in multiple of three at a point

Options :

- 485584145585. 1
- 485584145586. 2
- 485584145587. 3
- 485584145588. 4

Question Number : 12 Question Id : 48558436397 Question Type : MCQ Option Shuffling : No Is Question Mandatory : No Calculator : None Response Time : N.A Think Time : N.A Minimum Instruction Time : 0

Correct Marks : 5 Wrong Marks : 1

Question Key Details :

Key	Value
Comprehension	MCQ

പോയന്റ് മ്യൂട്ടേഷൻ അർത്ഥമാക്കുന്നത്

1. ഒരു ബേസ് പെയറിലെ മാറ്റം
2. ഒരു അല്ലെല്ലയിലെ മാറ്റം
3. ഒരു ലോക്കേഷനിലുള്ള ബേസ് പെയറിൽ വലിയ പ്രാധാന്യമില്ലാത്ത മാറ്റം
4. ഒരു ഘട്ടത്തിൽ കോഡോണുകളിൽ മൂന്നിന്റെ ഗണിതമായി (മൾട്ടിപിൾ ഓഫ് ത്രീ) കൂട്ടുകയോ, അപ്രത്യക്ഷമാവുകയോ ചെയ്യുന്നത്

Options :

- 485584145585. 1
- 485584145586. 2
- 485584145587. 3
- 485584145588. 4

Question Number : 13 Question Id : 48558436398 Question Type : MCQ Option Shuffling : No Is Question Mandatory : No Calculator : None Response Time : N.A Think Time : N.A Minimum Instruction Time : 0

Correct Marks : 5 Wrong Marks : 1

Question Key Details :

Key	Value
Comprehension	MCQ

Which of the following is a stop codon?

1. UAC
2. UAG
3. UAU
4. AUG

Options :

- 485584145589. 1
- 485584145590. 2
- 485584145591. 3
- 485584145592. 4

Question Number : 13 Question Id : 48558436398 Question Type : MCQ Option Shuffling : No Is Question Mandatory : No Calculator : None Response Time : N.A Think Time : N.A Minimum Instruction Time : 0

Correct Marks : 5 Wrong Marks : 1

Question Key Details :

Key	Value
Comprehension	MCQ

ഏതാണ് സ്റ്റോപ്പ് കോഡോൺ

1. യു.എ.സി
2. യു.എ.ജി
3. യു.എ.യു
4. എ.യു.ജി

Options :

- 485584145589. 1
- 485584145590. 2
- 485584145591. 3
- 485584145592. 4

Question Number : 14 Question Id : 48558436399 Question Type : MCQ Option Shuffling : No Is Question Mandatory : No Calculator : None Response Time : N.A Think Time : N.A Minimum Instruction Time : 0

Correct Marks : 5 Wrong Marks : 1

Question Key Details :

Key	Value
Comprehension	MCQ

Match List I with List II

LIST I (Codes)		LIST II (Codes for)	
A.	UUU	I.	Phenylalanine
B.	AUG	II.	Initiator codon
C.	UAA	III.	Terminator codon
D.	GUU	IV.	Valine

Choose the correct answer from the options given below:

1. A-I, B-II, C-III, D-IV
2. A-II, B-I, C-III, D-IV
3. A-I, B-II, C-IV, D-III
4. A-III, B-IV, C-I, D-II

Options :

485584145593. 1
485584145594. 2
485584145595. 3
485584145596. 4

Question Number : 14 Question Id : 48558436399 Question Type : MCQ Option Shuffling : No Is Question Mandatory : No Calculator : None Response Time : N.A Think Time : N.A Minimum Instruction Time : 0

Correct Marks : 5 Wrong Marks : 1

Question Key Details :

Key	Value
Comprehension	MCQ

പട്ടിക ഒന്നും പട്ടിക രണ്ടും തമ്മിൽ ഒരനുരോധം

പട്ടിക I (Codes)		പട്ടിക II (Codes for)	
A.	UUU	I.	ഫെനിനിലാലാനൈൻ
B.	AUG	II.	ഇനീഷ്യേറ്റർ കോഡോൺ
C.	UAA	III.	ടെർമിനേറ്റർ കോഡോൺ
D.	GUU	IV.	വാലൈൻ

താഴെ പറയുന്നവയിൽ നിന്നും ശരിയായതരം തിരഞ്ഞെടുക്കുക :

1. A-I, B-II, C-III, D-IV
2. A-II, B-I, C-III, D-IV
3. A-I, B-II, C-IV, D-III
4. A-III, B-IV, C-I, D-II

Options :

485584145593. 1
485584145594. 2
485584145595. 3
485584145596. 4

Question Number : 15 Question Id : 48558436400 Question Type : MCQ Option Shuffling : No Is Question Mandatory : No Calculator : None Response Time : N.A Think Time : N.A Minimum Instruction Time : 0

Correct Marks : 5 Wrong Marks : 1

Question Key Details :

Key	Value
Comprehension	MCQ

Multiple additions of new genes or alleles to the new population and their loss from the old population of a particular place due to migration is known as:

1. Gene flow
2. Genetic drift
3. Mutation
4. Natural selection

Options :

- 485584145597. 1
- 485584145598. 2
- 485584145599. 3
- 485584145600. 4

Question Number : 15 Question Id : 48558436400 Question Type : MCQ Option Shuffling : No Is Question Mandatory : No Calculator : None Response Time : N.A Think Time : N.A Minimum Instruction Time : 0

Correct Marks : 5 Wrong Marks : 1

Question Key Details :

Key	Value
Comprehension	MCQ

ഒരു പ്രത്യേക ഇടത്തേക്കുള്ള മൈഗ്രേഷൻ കാരണം ഓൾഡ് പോപ്പുലേഷനിന് പ്രായ ജനസംഖ്യയിൽ) നഷ്ടം വരുകയും പുതിയ പോപ്പുലേഷനിലേക്ക് (പുതിയ ജനസംഖ്യ) പുതിയ ജീനുകളോ അല്ലെങ്കിലോ എണ്ണമറ്റ് കുടിച്ചേരുന്നത് അറിയപ്പെടുന്നത്

1. ജീനുകളുടെ ഒഴുക്ക് (ജീൻ ഫ്ലോ)
2. ജനിതക ഒഴുക്ക് (ജീൻ ഡ്രിഫ്റ്റ്)
3. മ്യൂട്ടേഷൻ
4. നാച്ചുറൽ സെലക്ഷൻ (സ്വാഭാവിക തിരഞ്ഞെടുപ്പ്)

Options :

- 485584145597. 1
- 485584145598. 2
- 485584145599. 3
- 485584145600. 4

Question Number : 16 Question Id : 48558436401 Question Type : MCQ Option Shuffling : No Is Question Mandatory : No Calculator : None Response Time : N.A Think Time : N.A Minimum Instruction Time : 0

Correct Marks : 5 Wrong Marks : 1

Question Key Details :

Key	Value
Comprehension	MCQ

Australian marsupials show the phenomena of:

1. Convergent evolution
2. Adaptive radiation
3. Isolation
4. Saltation

Options :

- 485584145601. 1
- 485584145602. 2
- 485584145603. 3
- 485584145604. 4

Question Number : 16 Question Id : 48558436401 Question Type : MCQ Option Shuffling : No Is Question Mandatory : No Calculator : None Response Time : N.A Think Time : N.A Minimum Instruction Time : 0

Correct Marks : 5 Wrong Marks : 1

Question Key Details :

Key	Value
Comprehension	MCQ

ഓസ്ട്രേലിയൻ സഞ്ചിമൃഗങ്ങൾ (മർസുപ്പിയർസ് കുടുംബാംഗങ്ങളായവ) കാണിക്കുന്ന പ്രതിഭാസം

1. കൺവെർജൻ്റ് ഇവലൂഷൻ
2. അഡാപ്റ്റീവ് റേഡിയേഷൻ
3. ഐസൊലേഷൻ
4. സാൾട്ടേഷൻ

Options :

- 485584145601. 1
- 485584145602. 2
- 485584145603. 3
- 485584145604. 4

Question Number : 17 Question Id : 48558436402 Question Type : MCQ Option Shuffling : No Is Question Mandatory : No Calculator : None Response Time : N.A Think Time : N.A Minimum Instruction Time : 0

Correct Marks : 5 Wrong Marks : 1

Question Key Details :

Key	Value
Comprehension	MCQ

Identify the examples of evolution caused due to anthropogenic actions:

- A. *Bacillus thuringiensis* and Lepidopterans
- B. Industrial melanism in moths
- C. Resistant microbes against antibiotics
- D. Pesticides and insects

Choose the correct answer from the options given below:

1. A, B and C only
2. A, B and D only
3. B, C and D only
4. A, C and D Only

Options :

- 485584145605. 1
- 485584145606. 2
- 485584145607. 3
- 485584145608. 4

Question Number : 17 Question Id : 48558436402 Question Type : MCQ Option Shuffling : No Is Question Mandatory : No Calculator : None Response Time : N.A Think Time : N.A Minimum Instruction Time : 0

Correct Marks : 5 Wrong Marks : 1

Question Key Details :

Key	Value
Comprehension	MCQ

മനുഷ്യവിഭജന പ്രക്രിയ വഴി (ആന്ത്രോപോജനിക്) സംഭവിക്കുന്ന പരിണാമത്തിന് ഉദാഹരണം തിരഞ്ഞെടുക്കുക

- A. ബാസിഡസ് തൂറിബിയൻസിസ്, ലെപിഡോപ്റ്ററൻസ്
- B. പാറ്റകളിൽ (മോത്ത്) കാണുന്ന ഇൻഡസ്ട്രിയൽ മെലനിസം
- C. ആന്റിബയോട്ടിക്കുകൾക്കെതിരെയുള്ള സൂക്ഷ്മാണുക്കളുടെ (മൈക്രോബ്) പ്രതിരോധം
- D. കീടനാശിനിയും പ്രാണികളും

താഴെ പറയുന്നവയിൽ ശരിയുത്തരം കണ്ടെത്തുക

- 1. A, B, C
- 2. A, B, D
- 3. B, C, D
- 4. A, C, D

Options :

- 485584145605. 1
- 485584145606. 2
- 485584145607. 3
- 485584145608. 4

Question Number : 18 Question Id : 48558436403 Question Type : MCQ Option Shuffling : No Is Question Mandatory : No Calculator : None Response Time : N.A Think Time : N.A Minimum Instruction Time : 0

Correct Marks : 5 Wrong Marks : 1

Question Key Details :

Key	Value
Comprehension	MCQ

The presence of which disease is confirmed by Widal Test?

- 1. Malaria
- 2. Pneumonia
- 3. Typhoid
- 4. AIDS

Options :

- 485584145609. 1
- 485584145610. 2
- 485584145611. 3
- 485584145612. 4

Question Number : 18 Question Id : 48558436403 Question Type : MCQ Option Shuffling : No Is Question Mandatory : No Calculator : None Response Time : N.A Think Time : N.A Minimum Instruction Time : 0

Correct Marks : 5 Wrong Marks : 1

Question Key Details :

Key	Value
Comprehension	MCQ

വൈഡൽ (Widal Test) ടെസ്റ്റ് വഴി ഏത് രോഗ സാന്നിധ്യമാണ് കണ്ടെത്താൻ കഴിയുക -

1. മലേറിയ
2. ന്യൂമോണിയ
3. ടൈഫോയ്ഡ്
4. എച്ച്.ഐ

Options :

485584145609. 1
485584145610. 2
485584145611. 3
485584145612. 4

Question Number : 19 Question Id : 48558436404 Question Type : MCQ Option Shuffling : No Is Question Mandatory : No Calculator : None Response Time : N.A Think Time : N.A Minimum Instruction Time : 0

Correct Marks : 5 Wrong Marks : 1

Question Key Details :

Key	Value
Comprehension	MCQ

Arrange the stages of HIV infection in humans sequentially.

- A. Introduction of viral DNA in the cell
- B. Production of multiple viruses
- C. Infection of human cell by virus
- D. Incorporation of viral DNA into host genome

Choose the correct answer from the options given below:

1. A, B, D, C
2. C, A, D, B
3. D, A, B, C
4. B, A, D, C

Options :

485584145613. 1
485584145614. 2
485584145615. 3
485584145616. 4

Question Number : 19 Question Id : 48558436404 Question Type : MCQ Option Shuffling : No Is Question Mandatory : No Calculator : None Response Time : N.A Think Time : N.A Minimum Instruction Time : 0

Correct Marks : 5 Wrong Marks : 1

Question Key Details :

Key	Value
Comprehension	MCQ

മനുഷ്യനിലെ എച്ച്.ഐ.വി അണുബാധയുടെ ഘട്ടങ്ങൾ അനുക്രമമായി (സീക്വൻഷലി) തയ്യാറാക്കുക

- A. കോശത്തിൽ വൈറൽ ഡി.എൻ.എ യുടെ അവതരണം (ഇൻട്രാഡക്ഷൻ)
- B. ഒട്ടേറെ വൈറസ്സുകളുടെ ഉല്പാദനം
- C. മനുഷ്യകോശങ്ങളിൽ വൈറസ് അണുബാധ
- D. ഹെറസ്സ് ജീനോമിൽ വൈറൽ ഡി.എൻ.എ യുടെ കൂടിച്ചേരൽ

താഴെ പറയുന്നവയിൽ നിന്ന് ശരിയായ ഉത്തരം കണ്ടെത്തുക

- 1. A, B, D, C
- 2. C, A, D, B
- 3. D, A, B, C
- 4. B, A, D, C

Options :

- 485584145613. 1
- 485584145614. 2
- 485584145615. 3
- 485584145616. 4

Question Number : 20 Question Id : 48558436405 Question Type : MCQ Option Shuffling : No Is Question Mandatory : No Calculator : None Response Time : N.A Think Time : N.A Minimum Instruction Time : 0

Correct Marks : 5 Wrong Marks : 1

Question Key Details :

Key	Value
Comprehension	MCQ

Match List I with List II

LIST I Causal organism		LIST II Disease	
A.	<i>Fischeria bancrofti</i>	I.	Ringworm
B.	<i>Microsporium</i>	II.	Elephantiasis
C.	<i>Entamoeba histolytica</i>	III.	Malaria
D.	<i>Plasmodium vivax</i>	IV.	Amoebiasis

Choose the correct answer from the options given below:

- 1. A-II, B-I, C-IV, D-III
- 2. A-I, B-II, C-III, D-IV
- 3. A-IV, B-III, C-II, D-I
- 4. A-I, B-II, C-IV, D-III

Options :

- 485584145617. 1
- 485584145618. 2
- 485584145619. 3
- 485584145620. 4

Question Number : 20 Question Id : 48558436405 Question Type : MCQ Option Shuffling : No Is Question Mandatory : No Calculator : None Response Time : N.A Think Time : N.A Minimum Instruction Time : 0

Correct Marks : 5 Wrong Marks : 1

Question Key Details :

Key	Value
Comprehension	MCQ

പട്ടിക ഒന്നും പട്ടിക രണ്ടും തമ്മിൽ ഒത്തുനോക്കുക

പട്ടിക I Causal organism		പട്ടിക II Disease	
A.	വൃക്കക്കറേറിയ ബാക്ടീരിയ	I.	നിഴ് വേം
B.	ബൈകോസ്പോറം	II.	മന്ത് (എലിഫെന്റിയാസിസ്)
C.	എൽ.ടി.ബി ഹിസ്റ്റോപ്ലാസ്മ	III.	മലേറിയ
D.	പ്ലാസ്മോഡിയം വിവാക്സ്	IV.	അമീബിയോസിസ്

താഴെ കൊടുത്തിരിക്കുന്നവയിൽ നിന്നും ശരിയായ ഉത്തരം തിരഞ്ഞെടുക്കുക :

1. A-II, B-I, C-IV, D-III
2. A-I, B-II, C-III, D-IV
3. A-IV, B-III, C-II, D-I
4. A-I, B-II, C-IV, D-III

Options :

- 485584145617. 1
- 485584145618. 2
- 485584145619. 3
- 485584145620. 4

Question Number : 21 Question Id : 48558436406 Question Type : MCQ Option Shuffling : No Is Question Mandatory : No Calculator : None Response Time : N.A Think Time : N.A Minimum Instruction Time : 0 Correct Marks : 5 Wrong Marks : 1

Question Key Details :

Key	Value
Comprehension	MCQ

Homozygosity is achieved through :

1. Recombinant DNA technology
2. Vaccination
3. Inbreeding
4. Hybridoma technology

Options :

- 485584145621. 1
- 485584145622. 2
- 485584145623. 3
- 485584145624. 4

Question Number : 21 Question Id : 48558436406 Question Type : MCQ Option Shuffling : No Is Question Mandatory : No Calculator : None Response Time : N.A Think Time : N.A Minimum Instruction Time : 0 Correct Marks : 5 Wrong Marks : 1

Question Key Details :

Key	Value
Comprehension	MCQ

പോലോസൈഗോസിറ്റി എങ്ങനെയാണു് നേടാനാവുക

1. റിട്രോസിനന്റ് ഡി.എൻ.എ സാങ്കേതിക വിദ്യയിലൂടെ
2. വാക്സിനേഷൻ
3. ഇൻബ്രീഡിങ്ങ്
4. ഹൈബ്രിഡോമ സാങ്കേതിക വിദ്യകൾ

Options :

- 485584145621. 1
- 485584145622. 2
- 485584145623. 3
- 485584145624. 4

Question Number : 22 Question Id : 48558436407 Question Type : MCQ Option Shuffling : No Is Question Mandatory : No Calculator : None Response Time : N.A Think Time : N.A Minimum Instruction Time : 0

Correct Marks : 5 Wrong Marks : 1

Question Key Details :

Key	Value
Comprehension	MCQ

Arrange the steps involved in breeding a crop for a new genetic variety in sequence.

- A. Selection and testing of superior recombinants
- B. Evaluation and selection of parents
- C. Collection of variability
- D. Testing release and commercialisation of new cultivars
- E. Cross hybridisation among selected parents

Choose the correct answer from the options given below:

1. A → C → B → E → D
2. B → D → A → C → E
3. C → B → E → A → D
4. D → B → A → E → C

Options :

- 485584145625. 1
- 485584145626. 2
- 485584145627. 3
- 485584145628. 4

Question Number : 22 Question Id : 48558436407 Question Type : MCQ Option Shuffling : No Is Question Mandatory : No Calculator : None Response Time : N.A Think Time : N.A Minimum Instruction Time : 0

Correct Marks : 5 Wrong Marks : 1

Question Key Details :

Key	Value
Comprehension	MCQ

ഒരു പുതിയ വിള ജനിതക വ്യതിയാനത്തിലൂടെ സൃഷ്ടിക്കുന്നതിന്റെ നടപടികൾ ക്രമത്തിൽ എഴുതുക

- A. മേൽത്തരം റിക്രോസിനേജിംഗുകളുടെ തിരഞ്ഞെടുപ്പും പരീക്ഷണവും
- B. പാരന്റിസിന്റെ അവലോകനവും തിരഞ്ഞെടുപ്പും
- C. വാരിയബിലിറ്റിയുടെ ശേഖരണം
- D. പുതിയ വിളയുടെ (കൾട്ടിവേർസ്) പരീക്ഷണം പുറത്തുവിടലും വാണിജ്യവൽക്കരണവും

താഴെ പറയുന്നവയിൽ നിന്ന് ശരിയുത്തരം തിരഞ്ഞെടുക്കുക:

- 1. A → C → B → E → D
- 2. B → D → A → C → E
- 3. C → B → E → A → D
- 4. D → B → A → E → C

Options :

- 485584145625. 1
- 485584145626. 2
- 485584145627. 3
- 485584145628. 4

Question Number : 23 Question Id : 48558436408 Question Type : MCQ Option Shuffling : No Is Question Mandatory : No Calculator : None Response Time : N.A Think Time : N.A Minimum Instruction Time : 0

Correct Marks : 5 Wrong Marks : 1

Question Key Details :

Key	Value
Comprehension	MCQ

Match List I with List II

LIST I	LIST II
A. <i>Apis indica</i>	I. Dairying
B. <i>Carla</i>	II. Poultry
C. Leghorn	III. Fisheries
D. Jersey	IV. Bee-keeping

Choose the correct answer from the options given below:

- 1. A-I, B-II, C-III, D-IV
- 2. A-II, B-I, C-III, D-IV
- 3. A-IV, B-III, C-II, D-I
- 4. A-III, B-IV, C-I, D-II

Options :

- 485584145629. 1
- 485584145630. 2
- 485584145631. 3
- 485584145632. 4

Question Number : 23 Question Id : 48558436408 Question Type : MCQ Option Shuffling : No Is Question Mandatory : No Calculator : None Response Time : N.A Think Time : N.A Minimum Instruction Time : 0

Correct Marks : 5 Wrong Marks : 1

Question Key Details :

Key	Value
Comprehension	MCQ

ഈ പട്ടിക ഒന്നും രണ്ടും ഒത്തുനോക്കുക

പട്ടിക I		പട്ടിക II	
A.	അപിസ്തനീധിക	I.	കുളിരോൽപ്പാദനം (ഡയറിയിൽ)
B.	കട്ട	II.	കൊഴിവുളർത്തൽ
C.	ലെടോൺ	III.	മത്സ്യം വളർത്തൽ
D.	ജർസി	IV.	കുറുപ്പു വളർത്തൽ

താഴെ കൊടുത്തിരിക്കുന്നവയിൽ നിന്നും ശരിയായ ഉത്തരം തിരഞ്ഞെടുക്കുക :

1. A-I, B-II, C-III, D-IV
2. A-II, B-I, C-III, D-IV
3. A-IV, B-III, C-II, D-I
4. A-III, B-IV, C-I, D-II

Options :

485584145629. 1
 485584145630. 2
 485584145631. 3
 485584145632. 4

Question Number : 24 Question Id : 48558436409 Question Type : MCQ Option Shuffling : No Is Question Mandatory : No Calculator : None Response Time : N.A Think Time : N.A Minimum Instruction Time : 0

Correct Marks : 5 Wrong Marks : 1

Question Key Details :

Key	Value
Comprehension	MCQ

Which of the following microbe serves as an important biofertiliser in paddy field?

1. Cyanobacteria
2. *Rhizobium*
3. Mycorrhiza
4. *Bacillus thuringiensis*

Options :

485584145633. 1
 485584145634. 2
 485584145635. 3
 485584145636. 4

Question Number : 24 Question Id : 48558436409 Question Type : MCQ Option Shuffling : No Is Question Mandatory : No Calculator : None Response Time : N.A Think Time : N.A Minimum Instruction Time : 0

Correct Marks : 5 Wrong Marks : 1

Question Key Details :

Key	Value
Comprehension	MCQ

നെൽവയലുകളിൽ പ്രധാന ജൈവവളമായി ഉപയോഗിക്കാൻ കഴിയുന്ന സൂക്ഷ്മാണു

1. സയാനോ ബാക്ടീരിയ
2. റൈസോബിയം
3. മൈക്കോറൈസ
4. ബാസില്ലസ് തുറിഞ്ചിയൻസിസ്

Options :

- 485584145633. 1
- 485584145634. 2
- 485584145635. 3
- 485584145636. 4

Question Number : 25 Question Id : 48558436410 Question Type : MCQ Option Shuffling : No Is Question Mandatory : No Calculator : None Response Time : N.A Think Time : N.A Minimum Instruction Time : 0

Correct Marks : 5 Wrong Marks : 1

Question Key Details :

Key	Value
Comprehension	MCQ

Identify the correct statements with respect to microbes.

- A. "Toddy" the traditional drink obtained by fermenting sap of Palm tree.
- B. Swiss cheese's large holes are due to activity of *Saccharomyces cerevisiae*.
- C. "Penicillin" was discovered by Alexander Fleming.
- D. The Cyclosporin A, is produced by *Trichoderma polysporum*.

Choose the the correct answer from the options given below:

1. A, B and D only
2. A and B only
3. A, C, and D only
4. C and D only

Options :

- 485584145637. 1
- 485584145638. 2
- 485584145639. 3
- 485584145640. 4

Question Number : 25 Question Id : 48558436410 Question Type : MCQ Option Shuffling : No Is Question Mandatory : No Calculator : None Response Time : N.A Think Time : N.A Minimum Instruction Time : 0

Correct Marks : 5 Wrong Marks : 1

Question Key Details :

Key	Value
Comprehension	MCQ

സൂക്ഷ്മാണു സംബന്ധിച്ച് ശരിയായ പ്രസ്താവനകൾ കണ്ടെത്തുക

- A. പന (തെങ്ങ്) യുടെ നീര് പുളിപ്പിച്ച് തയ്യാറാക്കുന്ന പരമ്പരാഗത പാനീയമാണ് കള്ളി
- B. സച്ചാന്റോമൈസിസ് സെറിവിത്സ പ്രവർത്തനം കാരണമാണ് സ്വിസ് പാൽപ്പാടയിൽ (ചീസ്) വലിയ ദ്വാരങ്ങൾ കാണുന്നത്
- C. പെൻസിലിൻ കണ്ടുപിടിച്ചത് അലക്സാണ്ടർ ഫ്ലെമിങ് ആണ്
- D. സൈക്ലോസ്പോറിൻ A ഉല്പാദിപ്പിക്കുന്നത് ട്രൈകോഡെമ പോളിസ്പോറം വഴിയാണ്

ശരിയുത്തരം കണ്ടെത്തുക :

- 1. A, B and D only
- 2. A, B only
- 3. A, C, and D only
- 4. C and D only

Options :

- 485584145637. 1
- 485584145638. 2
- 485584145639. 3
- 485584145640. 4

Question Number : 26 Question Id : 48558436411 Question Type : MCQ Option Shuffling : No Is Question Mandatory : No Calculator : None Response Time : N.A Think Time : N.A Minimum Instruction Time : 0

Correct Marks : 5 Wrong Marks : 1

Question Key Details :

Key	Value
Comprehension	MCQ

Match List I with List II

LIST I Organism		LIST II Product	
A.	<i>Streptococcus</i>	I.	Citric acid
B.	<i>Aspergillus niger</i>	II.	Streptokinase
C.	<i>Adonascus purpureus</i>	III.	Ethanol
D.	<i>Saccharomyces cerevisiae</i>	IV.	Statin

Choose the correct answer from the options given below:

- 1. A-II, B-I, C-IV, D-III
- 2. A-I, B-II, C-III, D-IV
- 3. A-II, B-I, C-III, D-IV
- 4. A-III, B-IV, C-I, D-II

Options :

- 485584145641. 1
- 485584145642. 2
- 485584145643. 3
- 485584145644. 4

Question Number : 26 Question Id : 48558436411 Question Type : MCQ Option Shuffling : No Is Question Mandatory : No Calculator : None Response Time : N.A Think Time : N.A Minimum Instruction Time : 0

Correct Marks : 5 Wrong Marks : 1

Question Key Details :

Key	Value
Comprehension	MCQ

പട്ടിക ഒന്നും പട്ടിക രണ്ടും തമ്മിൽ ഒത്തുനോക്കുക

പട്ടിക I Organism	പട്ടിക II Product
A. സ്ട്രെപ്റ്റോകോക്കസ്	I. സിട്രിക് ആസിഡ്
B. ആസ്പെർജില്ലസ് നിഗർ	II. സ്ട്രെപ്റ്റോകോക്കസ്
C. മൊണാസ്സസ് പർപറൂസ്	III. ഘൃതാനോൾ
D. സപ്റ്റോമീസസ് സെനിവിസിഡെ	IV. സ്റ്റാറ്റിൻ

ശരിയായ ഉത്തരം കണ്ടെത്തുക:

1. A-II, B-I, C-IV, D-III
2. A-I, B-II, C-III, D-IV
3. A-II, B-I, C-III, D-IV
4. A-III, B-IV, C-I, D-II

Options :

- 485584145641. 1
- 485584145642. 2
- 485584145643. 3
- 485584145644. 4

Question Number : 27 Question Id : 48558436412 Question Type : MCQ Option Shuffling : No Is Question Mandatory : No Calculator : None Response Time : N.A Think Time : N.A Minimum Instruction Time : 0

Correct Marks : 5 Wrong Marks : 1

Question Key Details :

Key	Value
Comprehension	MCQ

Which of the following is not a part of downstream processing?

1. Separation
2. Purification
3. Quality control
4. Biosynthesis

Options :

- 485584145645. 1
- 485584145646. 2
- 485584145647. 3
- 485584145648. 4

Question Number : 27 Question Id : 48558436412 Question Type : MCQ Option Shuffling : No Is Question Mandatory : No Calculator : None Response Time : N.A Think Time : N.A Minimum Instruction Time : 0

Correct Marks : 5 Wrong Marks : 1

Question Key Details :

Key	Value
Comprehension	MCQ

ഡൌൺലോഡ് ചെയ്തുകൊടുക്കുക (പ്രക്രിയയുടെ ഭാഗമല്ലാത്തത്)

1. വിഭജനം
2. ശുദ്ധീകരണം
3. ഗുണനിയന്ത്രണം
4. ബയോസിസ്റ്റിംഗ്

Options :

- 485584145645. 1
- 485584145646. 2
- 485584145647. 3
- 485584145648. 4

Question Number : 28 Question Id : 48558436413 Question Type : MCQ Option Shuffling : No Is Question Mandatory : No Calculator : None Response Time : N.A Think Time : N.A Minimum Instruction Time : 0

Correct Marks : 5 Wrong Marks : 1

Question Key Details :

Key	Value
Comprehension	MCQ

Which was the first restriction endonuclease discovered?

1. *EcoRI*
2. *BamHI*
3. *HindII*
4. *PstI*

Options :

- 485584145649. 1
- 485584145650. 2
- 485584145651. 3
- 485584145652. 4

Question Number : 28 Question Id : 48558436413 Question Type : MCQ Option Shuffling : No Is Question Mandatory : No Calculator : None Response Time : N.A Think Time : N.A Minimum Instruction Time : 0

Correct Marks : 5 Wrong Marks : 1

Question Key Details :

Key	Value
Comprehension	MCQ

എൻഡോന്യൂക്ലിയസ് കണ്ടെത്തിയ ആദ്യ നിയന്ത്രണം (റിസ്ട്രിക്ഷൻ) ഏതാണ് -

1. *EcoRI*
2. *BamHI*
3. *HindII*
4. *PstI*

Options :

- 485584145649. 1
- 485584145650. 2
- 485584145651. 3
- 485584145652. 4

Question Number : 29 Question Id : 48558436414 Question Type : MCQ Option Shuffling : No Is Question Mandatory : No Calculator : None Response Time : N.A Think Time : N.A Minimum Instruction Time : 0

Correct Marks : 5 Wrong Marks : 1

Question Key Details :

Key	Value
Comprehension	MCQ

The correct sequence of steps to obtain gene of interest from pool of DNA is:

- A. Cutting of DNA using restriction endonuclease.
- B. Viewing the ethidium bromide stained gel under UV light.
- C. Loading of DNA in wells.
- D. Cutting and extraction of DNA piece from gel.
- E. Separation of DNA fragments according to their molecular size.

Choose the correct answer from the options given below:

- 1. A, C, E, B, D
- 2. A, D, C, B, E
- 3. E, D, B, C, A
- 4. D, E, C, A, B

Options :

- 485584145653. 1
- 485584145654. 2
- 485584145655. 3
- 485584145656. 4

Question Number : 29 Question Id : 48558436414 Question Type : MCQ Option Shuffling : No Is Question Mandatory : No Calculator : None Response Time : N.A Think Time : N.A Minimum Instruction Time : 0

Correct Marks : 5 Wrong Marks : 1

Question Key Details :

Key	Value
Comprehension	MCQ

പുഴർ ഓഫ് ഡി.എൻ.എ യിൽ നിന്ന് ജീൻ ഓഫ് ഇൻറസ്റ്റ് കിട്ടാനുള്ള ശരിയായ വഴികൾ അനുക്രമണ (sequence) ത്തിൽ എഴുതുക :

- A. റിസ്ട്രിക്ഷൻ എൻഡോന്യൂക്ലിയേസ് ഉപയോഗിച്ചുള്ള ഡി.എൻ.എ കട്ടിങ്
- B. യു.വി പ്രകാശത്തിന് കീഴിൽ എത്തിഡിയം ബ്രോമൈഡ് സ്റ്റെയിൻഡ് ജെൽ പരിശോധിക്കുക (വ്യൂ)
- C. ഡി.എൻ.എ വെൽസിൽ നിറയ്ക്കുക
- D. ജെല്ലിൽ നിന്ന് ഡി.എൻ.എ പീസ് കട്ടിങ്ങും എക്സ്ട്രാക്ഷനും

താഴെ പറയുന്നവയിൽ നിന്ന് ശരിയായവ തിരഞ്ഞെടുക്കുക :

- 1. A, C, E, B, D
- 2. A, D, C, B, E
- 3. E, D, B, C, A
- 4. D, E, C, A, B

Options :

- 485584145653. 1
- 485584145654. 2
- 485584145655. 3
- 485584145656. 4

Question Number : 30 Question Id : 48558436415 Question Type : MCQ Option Shuffling : No Is Question Mandatory : No Calculator : None

Response Time : N.A Think Time : N.A Minimum Instruction Time : 0

Correct Marks : 5 Wrong Marks : 1

Question Key Details :

Key	Value
Comprehension	MCQ

Over 95% of all existing transgenic animals are:

1. Mice
2. Goat
3. Rabbit
4. Pig

Options :

- 485584145657. 1
- 485584145658. 2
- 485584145659. 3
- 485584145660. 4

Question Number : 30 Question Id : 48558436415 Question Type : MCQ Option Shuffling : No Is Question Mandatory : No Calculator : None
Response Time : N.A Think Time : N.A Minimum Instruction Time : 0

Correct Marks : 5 Wrong Marks : 1

Question Key Details :

Key	Value
Comprehension	MCQ

നിലവിലുള്ള ട്രാൻസജനിക്ക് മൃഗങ്ങളിൽ 95 ശതമാനവും -

1. എലി
2. ആട്
3. മൂയൽ
4. പന്നി

Options :

- 485584145657. 1
- 485584145658. 2
- 485584145659. 3
- 485584145660. 4

Question Number : 31 Question Id : 48558436416 Question Type : MCQ Option Shuffling : No Is Question Mandatory : No Calculator : None
Response Time : N.A Think Time : N.A Minimum Instruction Time : 0

Correct Marks : 5 Wrong Marks : 1

Question Key Details :

Key	Value
Comprehension	MCQ

A novel strategy to prevent infestation of roots of tobacco plant with the nematode *Meloidogyne incognita* is :

1. DNA interference
2. DNA-RNA interference
3. RNA interference
4. RNA-Protein interference

Options :

- 485584145661. 1

485584145662. 2
 485584145663. 3
 485584145664. 4

Question Number : 31 Question Id : 48558436416 Question Type : MCQ Option Shuffling : No Is Question Mandatory : No Calculator : None
 Response Time : N.A Think Time : N.A Minimum Instruction Time : 0

Correct Marks : 5 Wrong Marks : 1

Question Key Details :

Key	Value
Comprehension	MCQ

നെമറ്റോഡ് മെലോയിഡിജെൻ ഇൻകോഗ്നീഷ്യൂ ക്ലോപ്പം പുകയിലച്ചെടികളുടെ വേർ ചീയൽ (ഇൻഫെസ്റ്റേഷൻ) തടയാനുള്ള പുതിയ തന്ത്രം (സ്ട്രാറ്റജി)

1. ഡി.എൻ.എ ഇടപെടൽ (ഇൻറർഫിയറൻസ്)
2. ഡി.എൻ.എ - ആർ എൻ എ ഇടപെടൽ
3. ആർ.എൻ.എ ഇടപെടൽ
4. ആർ.എൻ.എ - പ്രോട്ടീൻ ഇടപെടൽ

Options :

485584145661. 1
 485584145662. 2
 485584145663. 3
 485584145664. 4

Question Number : 32 Question Id : 48558436417 Question Type : MCQ Option Shuffling : No Is Question Mandatory : No Calculator : None
 Response Time : N.A Think Time : N.A Minimum Instruction Time : 0

Correct Marks : 5 Wrong Marks : 1

Question Key Details :

Key	Value
Comprehension	MCQ

Match List I with List II

LIST I		LIST II	
A.	<i>Bacillus thuringiensis</i>	I.	Synthetic Human Insulin
B.	<i>Agrobacterium</i>	II.	ADA gene therapy
C.	<i>E. Coli</i>	III.	Cry gene
D.	Retroviral Vector	IV.	Vector carrying nematode-specific genes.

Choose the correct answer from the options given below:

1. A-III, B-IV, C-I, D-II
2. A-II, B-I, C-III, D-IV
3. A-I, B-III, C-IV, D-II
4. A-IV, B-II, C-I, D-III

Options :

485584145665. 1
 485584145666. 2
 485584145667. 3
 485584145668. 4

Question Number : 32 Question Id : 48558436417 Question Type : MCQ Option Shuffling : No Is Question Mandatory : No Calculator : None
 Response Time : N.A Think Time : N.A Minimum Instruction Time : 0

Correct Marks : 5 Wrong Marks : 1

Question Key Details :

Key	Value
Comprehension	MCQ

പട്ടിക ഒന്നും പട്ടിക രണ്ടും തമ്മിൽ ഒത്തുനോക്കുക

പട്ടിക I		പട്ടിക II	
A.	ബാബിജസ് തൂനിജിയസിസ്	I.	ക്രിത്തിമ സിന്തറ്റിക് മനുഷ്യ ഇൻസുലിൻ
B.	അഗ്രോബാക്ടീരിയം	II.	എഡി എജീൻ റെറാറ്റി
C.	ഇ. കോളി	III.	ലൈക്കീൻ
D.	നിമോസൈറ്റ വെക്ടർ	IV.	വെക്ടർ നെമാറ്റോഡ് - സ്പൈസിഫിക് ജീനുകളെ വഹിക്കുന്നത്

ശരിയായവ തിരഞ്ഞെടുക്കുക :

1. A-III, B-IV, C-I, D-II
2. A-II, B-I, C-III, D-IV
3. A-I, B-III, C-IV, D-II
4. A-IV, B-II, C-I, D-III

Options :

485584145665. 1
485584145666. 2
485584145667. 3
485584145668. 4

Question Number : 33 Question Id : 48558436418 Question Type : MCQ Option Shuffling : No Is Question Mandatory : No Calculator : None Response Time : N.A Think Time : N.A Minimum Instruction Time : 0

Correct Marks : 5 Wrong Marks : 1

Question Key Details :

Key	Value
Comprehension	MCQ

Identify the commensalism from the following associations:

1. Fungi and roots of higher plants.
2. Cuckoo and crow during breeding season.
3. Fig species and wasp
4. Sea anemone and clown fish

Options :

485584145669. 1
485584145670. 2
485584145671. 3
485584145672. 4

Question Number : 33 Question Id : 48558436418 Question Type : MCQ Option Shuffling : No Is Question Mandatory : No Calculator : None Response Time : N.A Think Time : N.A Minimum Instruction Time : 0

Correct Marks : 5 Wrong Marks : 1

Question Key Details :

Key	Value
Comprehension	MCQ

താഴെ പറയുന്നവയിൽ നിന്ന് കമ്മൺസലിസം കണ്ടുപിടിക്കുക

1. കുപ്പിൺ ജാതി സസ്യങ്ങൾ വൻചെടികളുടെ വേരുകൾ
2. കൂയിലുകളും കാക്കയും പെറ്റുവളർത്തൽ സമയങ്ങളിൽ
3. അത്തിമര സ്തീഷീസും കടന്നലും
4. സീ ആനിമോൺ ക്ലൗൺഫിഷ്

Options :

- 485584145669. 1
- 485584145670. 2
- 485584145671. 3
- 485584145672. 4

Question Number : 34 Question Id : 48558436419 Question Type : MCQ Option Shuffling : No Is Question Mandatory : No Calculator : None Response Time : N.A Think Time : N.A Minimum Instruction Time : 0

Correct Marks : 5 Wrong Marks : 1

Question Key Details :

Key	Value
Comprehension	MCQ

Select the organisms that can tolerate wide range of temperatures:

1. Eurythermals
2. Stenothermals
3. Conformers
4. Osmoregulators

Options :

- 485584145673. 1
- 485584145674. 2
- 485584145675. 3
- 485584145676. 4

Question Number : 34 Question Id : 48558436419 Question Type : MCQ Option Shuffling : No Is Question Mandatory : No Calculator : None Response Time : N.A Think Time : N.A Minimum Instruction Time : 0

Correct Marks : 5 Wrong Marks : 1

Question Key Details :

Key	Value
Comprehension	MCQ

ഊഷ്മാവിന്റെ വിവിധ തലങ്ങളെ താങ്ങാൻ കഴിയുന്ന പ്രവർത്തനരീതി

1. യൂറിതെർമൽസ്
2. സ്റ്റെനോതെർമൽസ്
3. കൺഫോമേഴ്സ്
4. ഓസ്മോറഗ്യൂലേറ്റേഴ്സ്

Options :

- 485584145673. 1
- 485584145674. 2
- 485584145675. 3
- 485584145676. 4

Question Number : 35 Question Id : 48558436420 Question Type : MCQ Option Shuffling : No Is Question Mandatory : No Calculator : None Response Time : N.A Think Time : N.A Minimum Instruction Time : 0

Correct Marks : 5 Wrong Marks : 1

Question Key Details :

Key	Value
Comprehension	MCQ

The rate of decomposition is controlled by:

1. Chemical composition of detritus only
2. Climatic factors only
3. Both chemical composition of detritus and climatic factors
4. Atmospheric pressure

Options :

485584145677. 1

485584145678. 2

485584145679. 3

485584145680. 4

Question Number : 35 Question Id : 48558436420 Question Type : MCQ Option Shuffling : No Is Question Mandatory : No Calculator : None Response Time : N.A Think Time : N.A Minimum Instruction Time : 0

Correct Marks : 5 Wrong Marks : 1

Question Key Details :

Key	Value
Comprehension	MCQ

ജീർണത നിരക്കിനെ നിയന്ത്രിക്കുന്നത് -

1. ഡെട്രിറ്റസ്സിന്റെ രാസസങ്കലനം വഴി മാത്രം
2. കാലാവസ്ഥ ഘടകങ്ങൾ മാത്രം
3. ഡെട്രിറ്റസ് രാസസങ്കലനവും കാലാവസ്ഥ ഘടകങ്ങൾ എന്നിവ രണ്ടും
4. അന്തരീക്ഷ സമ്മർദ്ദം

Options :

485584145677. 1

485584145678. 2

485584145679. 3

485584145680. 4

Question Number : 36 Question Id : 48558436421 Question Type : MCQ Option Shuffling : No Is Question Mandatory : No Calculator : None Response Time : N.A Think Time : N.A Minimum Instruction Time : 0

Correct Marks : 5 Wrong Marks : 1

Question Key Details :

Key	Value
Comprehension	MCQ

The Net Primary Productivity (NPP) is :

1. Gross Primary Productivity - Respiration losses
2. Gross Primary Productivity + Respiration losses
3. Gross Primary Productivity × Respiration losses
4. Respiration losses - Gross Primary Productivity

Options :

485584145681. 1
485584145682. 2
485584145683. 3
485584145684. 4

Question Number : 36 Question Id : 48558436421 Question Type : MCQ Option Shuffling : No Is Question Mandatory : No Calculator : None
Response Time : N.A Think Time : N.A Minimum Instruction Time : 0

Correct Marks : 5 Wrong Marks : 1

Question Key Details :

Key	Value
Comprehension	MCQ

നെറ്റ് പ്രൈമറി പ്രൊഡക്ഷിവിറ്റി (NPP) എന്നാൽ

1. ഗ്രോസ് പ്രൈമറി പ്രൊഡക്ഷിവിറ്റി - ശ്വാഭാസൗച്യം
2. ഗ്രോസ് പ്രൈമറി പ്രൊഡക്ഷിവിറ്റി + ശ്വാഭാസൗച്യം
3. ഗ്രോസ് പ്രൈമറി പ്രൊഡക്ഷിവിറ്റി × ശ്വാഭാസൗച്യം
4. ശ്വാഭാസൗച്യം - ഗ്രോസ് പ്രൈമറി പ്രൊഡക്ഷിവിറ്റി

Options :

485584145681. 1
485584145682. 2
485584145683. 3
485584145684. 4

Question Number : 37 Question Id : 48558436422 Question Type : MCQ Option Shuffling : No Is Question Mandatory : No Calculator : None
Response Time : N.A Think Time : N.A Minimum Instruction Time : 0

Correct Marks : 5 Wrong Marks : 1

Question Key Details :

Key	Value
Comprehension	MCQ

Which of the following country has the highest biodiversity?

1. Brazil
2. Zimbabwe
3. Russia
4. India

Options :

485584145685. 1
485584145686. 2
485584145687. 3
485584145688. 4

Question Number : 37 Question Id : 48558436422 Question Type : MCQ Option Shuffling : No Is Question Mandatory : No Calculator : None
Response Time : N.A Think Time : N.A Minimum Instruction Time : 0

Correct Marks : 5 Wrong Marks : 1

Question Key Details :

Key	Value
Comprehension	MCQ

ഏത് രാജ്യത്തിനാണ് ഉയർന്ന ജൈവവൈവിധ്യമുള്ളത്

- 1. ബ്രസീൽ
- 2. സിംബാബ് വെ
- 3. റഷ്യ
- 4. ഇന്ത്യ

Options :

- 485584145685. 1
- 485584145686. 2
- 485584145687. 3
- 485584145688. 4

Question Number : 38 Question Id : 48558436423 Question Type : MCQ Option Shuffling : No Is Question Mandatory : No Calculator : None Response Time : N.A Think Time : N.A Minimum Instruction Time : 0

Correct Marks : 5 Wrong Marks : 1

Question Key Details :

Key	Value
Comprehension	MCQ

Which of the following species has become extinct due to over exploitation by humans?

- 1. *Clavias gariepinus*
- 2. Stellers's sea cow
- 3. *Lantana*
- 4. *Parthenium*

Options :

- 485584145689. 1
- 485584145690. 2
- 485584145691. 3
- 485584145692. 4

Question Number : 38 Question Id : 48558436423 Question Type : MCQ Option Shuffling : No Is Question Mandatory : No Calculator : None Response Time : N.A Think Time : N.A Minimum Instruction Time : 0

Correct Marks : 5 Wrong Marks : 1

Question Key Details :

Key	Value
Comprehension	MCQ

മനുഷ്യന്റെ ചൂഷണം കാരണം അന്യം നിന്നവ ഏത് .

- 1. ക്ലാരിയാസിസ് ഗരീപ്പീനസ്
- 2. സ്റ്റേല്ലർസ് കടൽക്കൊക്ക
- 3. ലാന്റാന
- 4. പാർത്തീനിയം

Options :

- 485584145689. 1
- 485584145690. 2
- 485584145691. 3
- 485584145692. 4

Question Number : 39 Question Id : 48558436424 Question Type : MCQ Option Shuffling : No Is Question Mandatory : No Calculator : None Response Time : N.A Think Time : N.A Minimum Instruction Time : 0

Correct Marks : 5 Wrong Marks : 1

Question Key Details :

Key	Value
Comprehension	MCQ

Salts are drawn to the surface of the soil by:

1. Over cultivation
2. Deforestation
3. Water logging
4. Unrestricted grazing

Options :

- 485584145693. 1
- 485584145694. 2
- 485584145695. 3
- 485584145696. 4

Question Number : 39 Question Id : 48558436424 Question Type : MCQ Option Shuffling : No Is Question Mandatory : No Calculator : None Response Time : N.A Think Time : N.A Minimum Instruction Time : 0

Correct Marks : 5 Wrong Marks : 1

Question Key Details :

Key	Value
Comprehension	MCQ

മണ്ണിന്റെ ഉപരിതലത്തിലേക്ക് അമ്ലത്തെ (Salts) ആഗിരണം ചെയ്യുന്നത് -

1. അമിതകൃഷി
2. വനനശീകരണം
3. വെള്ളക്കെട്ട്
4. അനിയന്ത്രിതമായ കാലിമേയ്ക്കൽ

Options :

- 485584145693. 1
- 485584145694. 2
- 485584145695. 3
- 485584145696. 4

Question Number : 40 Question Id : 48558436425 Question Type : MCQ Option Shuffling : No Is Question Mandatory : No Calculator : None Response Time : N.A Think Time : N.A Minimum Instruction Time : 0

Correct Marks : 5 Wrong Marks : 1

Question Key Details :

Key	Value
Comprehension	MCQ

World's most problematic aquatic weed is:

1. Free floating algae
2. *Valisneria*
3. *Eichhornia crassipes*
4. *Chara*

Options :

485584145697. 1
485584145698. 2
485584145699. 3
485584145700. 4

Question Number : 40 Question Id : 48558436425 Question Type : MCQ Option Shuffling : No Is Question Mandatory : No Calculator : None
Response Time : N.A Think Time : N.A Minimum Instruction Time : 0

Correct Marks : 5 Wrong Marks : 1

Question Key Details :

Key	Value
Comprehension	MCQ

ലോകത്തിലെ വലിയ പ്രശ്നം സൃഷ്ടിക്കുന്ന ജലത്തിലെ കളി

1. ഒഴുകി നടക്കുന്ന തൂതൽ
2. വല്ലസ്തനനിയ
3. ഐക്കോർണിയ ക്രാസ്സിപ്പ്
4. ചാറ

Options :

485584145697. 1
485584145698. 2
485584145699. 3
485584145700. 4

Sub-Section Number : 2
Sub-Section Id : 4855842691
Question Shuffling Allowed : No
Is Section Default? : null

Question Number : 41 Question Id : 48558436426 Question Type : MCQ Option Shuffling : No Is Question Mandatory : No Calculator : None
Response Time : N.A Think Time : N.A Minimum Instruction Time : 0

Correct Marks : 5 Wrong Marks : 1

Question Key Details :

Key	Value
Comprehension	Comp1

Read the given paragraph and answer the question:

Humans have 23 pairs of chromosomes. 22 pairs are exactly same in both males and females; these are the autosomes. A pair of X-chromosome are present in the female, whereas the presence of an X and Y chromosome are determinant of the male characteristic.

A number of disorders in human beings have been found to be associated with the inheritance of changed or altered genes or chromosomes. Broadly, genetic disorder may be grouped into two categories-Mendelian disorders and Chromosomal disorders.

What is the probability of having a daughter to a couple expecting their first child?

1. Nil
2. 25%
3. 50%
4. 100%

Options :

485584145701. 1
485584145702. 2
485584145703. 3

Question Number : 41 Question Id : 48558436426 Question Type : MCQ Option Shuffling : No Is Question Mandatory : No Calculator : None Response Time : N.A Think Time : N.A Minimum Instruction Time : 0 Correct Marks : 5 Wrong Marks : 1

Question Key Details :

Key	Value
Comprehension	Comp1

താഴെ കൊടുത്തിരിക്കുന്ന ഖണ്ഡിക വായിച്ച് വരെയുള്ള ചോദ്യങ്ങൾക്ക് ഉത്തരമെഴുതുക

മനുഷ്യർക്ക് 23 ജോഡി ക്രോമസോമുകളാണുള്ളത്. 22 എണ്ണം പുരുഷനും സ്ത്രീക്കും ഒരേ പോലെയാണ്. ഇവയെ ഓട്ടോസോമുകൾ എന്ന് വിളിക്കും. രണ്ട് എക്സ് - ക്രോമോസോമുകൾ (ഒരു ജോഡി) സ്ത്രീകളിൽ കാണുന്നു. മറിച്ച് പുരുഷന്മാരുടെ സ്വഭാവവിശേഷം നിർണ്ണയിക്കുന്നത് എക്സ്, യെവ ക്രോമസോമുകളാണ്.

മനുഷ്യരിൽ കാണുന്ന ചില തകരാറുകൾക്ക് കാരണം മാറിയ അല്ലെങ്ങരകിൽ മാറ്റം വരുത്തിയ ജീനുകളും മാറിയ ക്രോമസോമുകളും പൂർണ്ണമായി കിട്ടിയതുമായുള്ള ഇടപെടുകൾ ആണ്. മെൻഡലിയൻ, ക്രോമസോമൽ തകരാറുകളായി ജനിതകതകരാറുകളെ പൊതുവെ വിഭജിക്കാവുന്നതാണ്.

ആദ്യ കൂഞ്ഞിനെ പ്രതീക്ഷിക്കുന്ന ദമ്പതിമാർക്ക് പെൺകുട്ടി ഉണ്ടാവാനുള്ള സാധ്യത എത്ര

1. ഒട്ടുമില്ല
2. 25%
3. 50%
4. 100%

Options :

- 485584145701. 1
- 485584145702. 2
- 485584145703. 3
- 485584145704. 4

Question Number : 42 Question Id : 48558436427 Question Type : MCQ Option Shuffling : No Is Question Mandatory : No Calculator : None Response Time : N.A Think Time : N.A Minimum Instruction Time : 0 Correct Marks : 5 Wrong Marks : 1

Question Key Details :

Key	Value
Comprehension	Comp1

Read the given paragraph and answer the question:

Humans have 23 pairs of chromosomes. 22 pairs are exactly same in both males and females; these are the autosomes. A pair of X-chromosome are present in the female, whereas the presence of an X and Y chromosome are determinant of the male characteristic.

A number of disorders in human beings have been found to be associated with the inheritance of changed or altered genes or chromosomes. Broadly, genetic disorder may be grouped into two categories-Mendelian disorders and Chromosomal disorders.

A disorder caused due to absence of one of the 'X' chromosome is -

- 1. Turner's Syndrome
- 2. Down's Syndrome
- 3. Klinefelter's Syndrome
- 4. Thalassemia

Options :

- 485584145705. 1
- 485584145706. 2
- 485584145707. 3
- 485584145708. 4

Question Number : 42 Question Id : 48558436427 Question Type : MCQ Option Shuffling : No Is Question Mandatory : No Calculator : None
 Response Time : N.A Think Time : N.A Minimum Instruction Time : 0
 Correct Marks : 5 Wrong Marks : 1

Question Key Details :

Key	Value
Comprehension	Comp1

താഴെ കൊടുത്തിരിക്കുന്ന ഖണ്ഡിക വായിച്ച് വരെയുള്ള ചോദ്യങ്ങൾക്ക് ഉത്തരമെഴുതുക

മനുഷ്യർക്ക് 23 ജോഡി ക്രോമസോമുകളാണുള്ളത്. 22 എണ്ണം പുരുഷനും സ്ത്രീക്കും ഒരേ പോലെയാണ്. ഇവയെ ഓട്ടോസോമുകൾ എന്ന് വിളിക്കും. രണ്ട് എക്സ് - ക്രോമോസോമുകൾ (ഒരു ജോഡി) സ്ത്രീകളിൽ കാണുന്നു. മറിച്ച് പുരുഷന്മാരുടെ സ്വഭാവവിശേഷം നിർണ്ണയിക്കുന്നത് എക്സ്, ഡെൽ ക്രോമസോമുകളാണ്.

മനുഷ്യരിൽ കാണുന്ന ചില തകരാറുകൾക്ക് കാരണം മാറിയ അല്ലെങ്കിൽ മാറ്റം വരുത്തിയ ജീനുകളും മാറിയ ക്രോമസോമുകളും പൂർണ്ണമായി കിട്ടിയതുമായുള്ള ഇടപെടൽ ആണ്. മെൻഡലിയൻ, ക്രോമസോമൽ തകരാറുകളായി ജനിതകതകരാറുകളെ പൊതുവെ വിഭജിക്കാവുന്നതാണ്.

'X' ക്രോമസോമിന്റെ അഭാവം കാരണം മനുഷ്യരിലുണ്ടാവുന്ന തകരാറുകൾ -

- 1. ടേർണേർസ് സിൻഡ്രോം
- 2. ഡൗൺസ് സിൻഡ്രോം
- 3. ക്ലിൻഫെൽട്ടേർസ് സിൻഡ്രോം
- 4. തലസ്സീമിയ

Options :

- 485584145705. 1
- 485584145706. 2
- 485584145707. 3
- 485584145708. 4

Question Number : 43 Question Id : 48558436428 Question Type : MCQ Option Shuffling : No Is Question Mandatory : No Calculator : None
 Response Time : N.A Think Time : N.A Minimum Instruction Time : 0
 Correct Marks : 5 Wrong Marks : 1

Question Key Details :

Key	Value
Comprehension	Comp1

Read the given paragraph and answer the question:

Humans have 23 pairs of chromosomes. 22 pairs are exactly same in both males and females; these are the autosomes. A pair of X-chromosome are present in the female, whereas the presence of an X and Y chromosome are determinant of the male characteristic.

A number of disorders in human beings have been found to be associated with the inheritance of changed or altered genes or chromosomes. Broadly, genetic disorder may be grouped into two categories-Mendelian disorders and Chromosomal disorders.

A haemophilic man marries a normal woman. What is the possibility that their child have haemophilia?

- 1. 75%
- 2. 25%
- 3. 0%
- 4. 50%

Options :

- 485584145709. 1
- 485584145710. 2
- 485584145711. 3
- 485584145712. 4

Question Number : 43 Question Id : 48558436428 Question Type : MCQ Option Shuffling : No Is Question Mandatory : No Calculator : None Response Time : N.A Think Time : N.A Minimum Instruction Time : 0

Correct Marks : 5 Wrong Marks : 1

Question Key Details :

Key	Value
Comprehension	Compl

താഴെ കൊടുത്തിരിക്കുന്ന ഖണ്ഡിക വായിച്ച് വരെയുള്ള ചോദ്യങ്ങൾക്ക് ഉത്തരമെഴുതുക

മനുഷ്യർക്ക് 23 ജോഡി ക്രോമസോമുകളാണുള്ളത്. 22 എണ്ണം പുരുഷനും സ്ത്രീക്കും ഒരേ പോലെയാണ്, ഇവയെ ഓട്ടോസോമുകൾ എന്ന് വിളിക്കും. രണ്ട് എക്സ് - ക്രോമോസോമുകൾ (ഒരു ജോഡി) സ്ത്രീകളിൽ കാണുന്നു. മറിച്ച് പുരുഷന്മാരുടെ സ്വഭാവവിശേഷം നിർണ്ണയിക്കുന്നത് എക്സ്, വൈ ക്രോമസോമുകളാണ്.

മനുഷ്യരിൽ കാണുന്ന ചില തകരാറുകൾക്ക് കാരണം മാറിയ അല്ലെങ്കിൽ മാറ്റം വരുത്തിയ ജീനുകളും മാറിയ ക്രോമസോമുകളും പൂർവ്വാങ്കിതമായി കിട്ടിയതുമായുള്ള ഇടപെടലുകൾ ആണ്. മെൻഡലിയൻ, ക്രോമസോമൽ തകരാറുകളായി ജനിതകതകരാറുകളെ പൊതുവെ വിഭജിക്കാവുന്നതാണ്.

ഹിമോഫിലിയ ബാധിച്ച പുരുഷൻ സാധാരണ സ്ത്രീയെ വിവാഹം ചെയ്താൽ അവരുടെ കുഞ്ഞിന് ഹിമോഫിലിയ ബാധിക്കാനുള്ള സാധ്യത -

- 1. 75%
- 2. 25%
- 3. 0%
- 4. 50%

Options :

- 485584145709. 1
- 485584145710. 2
- 485584145711. 3

Question Number : 44 Question Id : 48558436429 Question Type : MCQ Option Shuffling : No Is Question Mandatory : No Calculator : None Response Time : N.A Think Time : N.A Minimum Instruction Time : 0 Correct Marks : 5 Wrong Marks : 1

Question Key Details :

Key	Value
Comprehension	Comp1

Read the given paragraph and answer the question:

Humans have 23 pairs of chromosomes. 22 pairs are exactly same in both males and females; these are the autosomes. A pair of X-chromosome are present in the female, whereas the presence of an X and Y chromosome are determinant of the male characteristic.

A number of disorders in human beings have been found to be associated with the inheritance of changed or altered genes or chromosomes. Broadly, genetic disorder may be grouped into two categories-Mendelian disorders and Chromosomal disorders.

Which of the following is an example of a sex linked disease?

1. Ascariasis
2. Colour blindness
3. Thalassemia
4. Phenylketonuria

Options :

- 485584145713. 1
- 485584145714. 2
- 485584145715. 3
- 485584145716. 4

Question Number : 44 Question Id : 48558436429 Question Type : MCQ Option Shuffling : No Is Question Mandatory : No Calculator : None Response Time : N.A Think Time : N.A Minimum Instruction Time : 0 Correct Marks : 5 Wrong Marks : 1

Question Key Details :

Key	Value
Comprehension	Comp1

താഴെ കൊടുത്തിരിക്കുന്ന ഖണ്ഡിക വായിച്ച് വരെയുള്ള ചോദ്യങ്ങൾക്ക് ഉത്തരമെഴുതുക

മനുഷ്യർക്ക് 23 ജോഡി ക്രോമസോമുകളാണുള്ളത്. 22 എണ്ണം പുരുഷനും സ്ത്രീക്കും ഒരേ പോലെയാണ്. ഇവയെ ഓട്ടോസോമുകൾ എന്ന് വിളിക്കും. രണ്ട് എക്സ് - ക്രോമോസോമുകൾ (ഒരു ജോഡി) സ്ത്രീകളിൽ കാണുന്നു. മറിച്ച് പുരുഷന്മാരുടെ സ്വഭാവവിശേഷം നിർണ്ണയിക്കുന്നത് എക്സ്, ഡൈ ക്രോമസോമുകളാണ്.

മനുഷ്യരിൽ കാണുന്ന ചില തകരാറുകൾക്ക് കാരണം മാറിയ അല്ലെങ്ങരകിൽ മാറ്റം വരുത്തിയ ജീനുകളും മാറിയ ക്രോമസോമുകളും പൂർവ്വാങ്കിതമായി കിട്ടിയതുമായുള്ള ഇടപെടലുകൾ ആണ്. മെൻഡലിയൻ, ക്രോമസോമൽ തകരാറുകളായി ജനിതകതകരാറുകളെ പൊതുവെ വിഭജിക്കാവുന്നതാണ്.

ലൈംഗികതയുമായി ബന്ധപ്പെട്ടുള്ള രോഗത്തിന് ഉദാഹരണം

1. അസ്തമിയം
2. വർണാന്ധത
3. തലസ്തീമിയ
4. ഫെനിൽകെറ്റോസ്യൂരിയ

Options :

- 485584145713. 1
- 485584145714. 2
- 485584145715. 3
- 485584145716. 4

Question Number : 45 Question Id : 48558436430 Question Type : MCQ Option Shuffling : No Is Question Mandatory : No Calculator : None Response Time : N.A Think Time : N.A Minimum Instruction Time : 0

Correct Marks : 5 Wrong Marks : 1

Question Key Details :

Key	Value
Comprehension	Comp1

Read the given paragraph and answer the question:

Humans have 23 pairs of chromosomes. 22 pairs are exactly same in both males and females; these are the autosomes. A pair of X-chromosome are present in the female, whereas the presence of an X and Y chromosome are determinant of the male characteristic.

A number of disorders in human beings have been found to be associated with the inheritance of changed or altered genes or chromosomes. Broadly, genetic disorder may be grouped into two categories-Mendelian disorders and Chromosomal disorders.

A colour blind man marries a carrier woman. Choose the possible progeny outcome.

1. All sons are born colourblind, while 50% the daughter born will be normal.
2. All children (sons and daughters) are born colour blind.
3. All daughters are normal whereas 50% of the sons born will be colour blind.
4. 50% of daughters and 50% of sons born will be colour blind.

Options :

- 485584145717. 1
- 485584145718. 2
- 485584145719. 3
- 485584145720. 4

Question Number : 45 Question Id : 48558436430 Question Type : MCQ Option Shuffling : No Is Question Mandatory : No Calculator : None Response Time : N.A Think Time : N.A Minimum Instruction Time : 0

Correct Marks : 5 Wrong Marks : 1

Question Key Details :

Key	Value
Comprehension	Comp1

താഴെ കൊടുത്തിരിക്കുന്ന ഖണ്ഡിക വായിച്ച് വരെയുള്ള ചോദ്യങ്ങൾക്ക് ഉത്തരമെഴുതുക

മനുഷ്യർക്ക് 23 ജോഡി ക്രോമസോമുകളാണുള്ളത്. 22 എണ്ണം പുരുഷനും സ്ത്രീക്കും ഒരേ പോലെയാണ്. ഇവയെ ഓട്ടോസോമുകൾ എന്ന് വിളിക്കും. രണ്ട് എക്സ് - ക്രോമസോമുകൾ (ഒരു ജോഡി) സ്ത്രീകളിൽ കാണുന്നു. മറിച്ച് പുരുഷന്മാരുടെ സ്വഭാവവിശേഷം നിർണ്ണയിക്കുന്നത് എക്സ്, ഡൈ ക്രോമസോമുകളാണ്.

മനുഷ്യരിൽ കാണുന്ന ചില തകരാറുകൾക്ക് കാരണം മാറിയ അല്ലെലുകളിൽ മാറ്റം വരുത്തിയ ജീനുകളും മാറിയ ക്രോമസോമുകളും പൂർവ്വാകിതമായി കിട്ടിയതുമായുള്ള ഇടപെടുകൾ ആണ്. മെൻഡലിയൻ, ക്രോമസോമൽ തകരാറുകളായി ജനിതകതകരാറുകളെ പൊതുവെ വിഭജിക്കാവുന്നതാണ്.

വർണാസ്യതയുള്ള പുരുഷൻ കാര്യർ സ്ത്രീയെ വിവാഹം ചെയ്താൽ സന്താനങ്ങൾക്കുണ്ടാവുന്ന പരിണതി

1. പിറക്കുന്ന ആൺകുട്ടികൾക്കെല്ലാം വർണാസ്യത കാണും, എന്നാൽ പെൺകുട്ടികൾ സാധാരണ പോലെയും
2. എല്ലാ കുട്ടികൾക്കും വർണാസ്യത കാണും
3. എല്ലാ പെൺകുട്ടികളും സാധാരണ പോലെ ജനിക്കും എന്നാൽ 50% ആൺകുട്ടികൾക്ക് വർണാസ്യത കാണും
4. 50% പെൺകുട്ടികളും 50% ആൺകുട്ടികളും വർണാസ്യത ഉള്ളവരായും

Options :

- 485584145717. 1
- 485584145718. 2
- 485584145719. 3
- 485584145720. 4

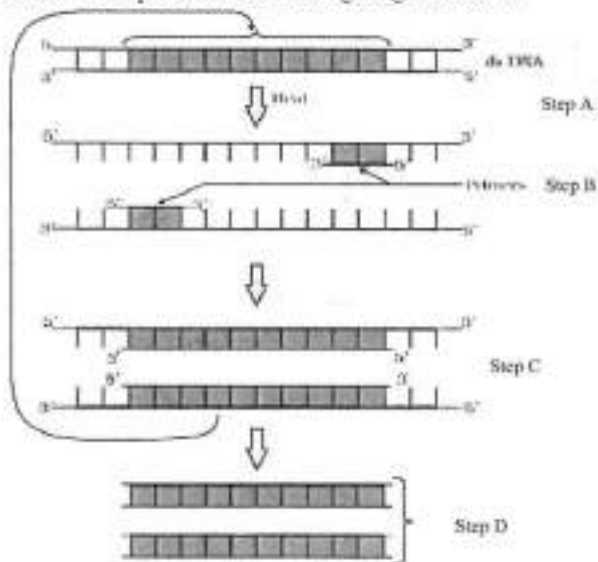
Sub-Section Number : 3
 Sub-Section Id : 4855842692
 Question Shuffling Allowed : No
 Is Section Default? : null

Question Number : 46 Question Id : 48558436431 Question Type : MCQ Option Shuffling : No Is Question Mandatory : No Calculator : None
 Response Time : N.A Think Time : N.A Minimum Instruction Time : 0
 Correct Marks : 5 Wrong Marks : 1

Question Key Details :

Key	Value
Comprehension	Comp2

Answer the questions from the figure given below:



If the reaction starts with one molecule of DNA, the number of cycles required to produce one billion amplified products is:

1. 8 cycles
2. 16 cycles
3. 30 cycles
4. 25 cycles

Options :

- 485584145721. 1
- 485584145722. 2
- 485584145723. 3
- 485584145724. 4

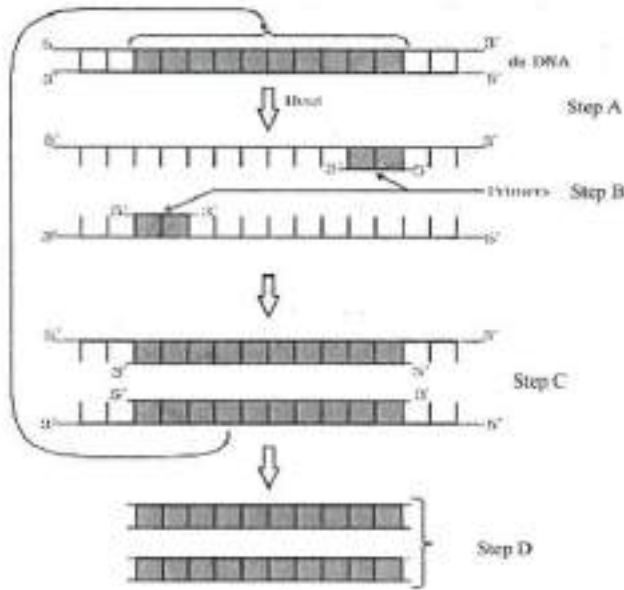
Question Number : 46 Question Id : 48558436431 Question Type : MCQ Option Shuffling : No Is Question Mandatory : No Calculator : None Response Time : N.A Think Time : N.A Minimum Instruction Time : 0

Correct Marks : 5 Wrong Marks : 1

Question Key Details :

Key	Value
Comprehension	Comp2

താഴെ കൊടുത്തിരിക്കുന്ന ചിത്രങ്ങൾ നോക്കി വരേ ചോദ്യങ്ങൾക്ക് ഉത്തരമെഴുതുക



ഡി.എൻ.എ ഒന്നാം മോഡ്യൂളിൽ നിന്ന് പ്രതിപ്രവർത്തനം (റിയാക്ഷൻ) തുടങ്ങുന്നുവെങ്കിൽ ഒരു ബിലുൺ ആംപ്ലിഫൈഡ് ഉൽപ്പന്നങ്ങൾ ഉല്പാദിപ്പിക്കാൻ വേണ്ട സൈക്കിൾസ് (ചാക്രിക ആവൃത്തി) -

1. 8 സൈക്കിൾസ് (ചാക്രിക ആവൃത്തി)
2. 16 സൈക്കിൾസ് (ചാക്രിക ആവൃത്തി)
3. 30 സൈക്കിൾസ് (ചാക്രിക ആവൃത്തി)
4. 25 സൈക്കിൾസ് (ചാക്രിക ആവൃത്തി)

Options :

- 485584145721. 1
- 485584145722. 2
- 485584145723. 3
- 485584145724. 4

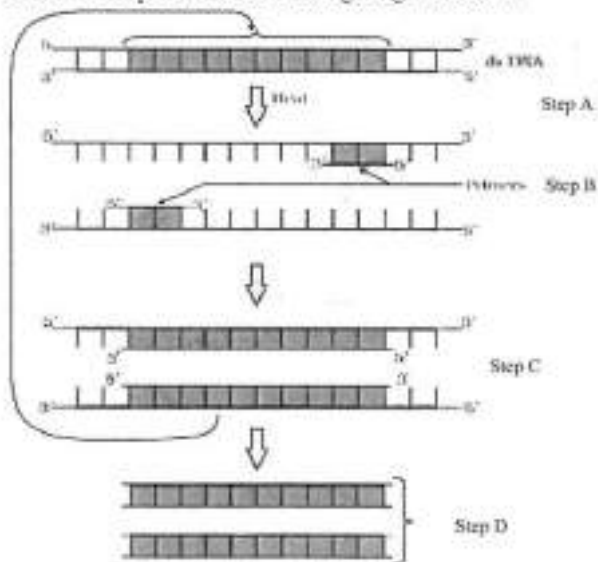
Question Number : 47 Question Id : 48558436432 Question Type : MCQ Option Shuffling : No Is Question Mandatory : No Calculator : None Response Time : N.A Think Time : N.A Minimum Instruction Time : 0

Correct Marks : 5 Wrong Marks : 1

Question Key Details :

Key	Value
Comprehension	Comp2

Answer the questions from the figure given below:



'Taq' in *Taq* polymerase stands for:

1. *Thermal aqua*
2. *Thermal aquaticus*
3. *Thermax aqua*
4. *Thermus aquaticus*

Options :

485584145725. 1
 485584145726. 2
 485584145727. 3
 485584145728. 4

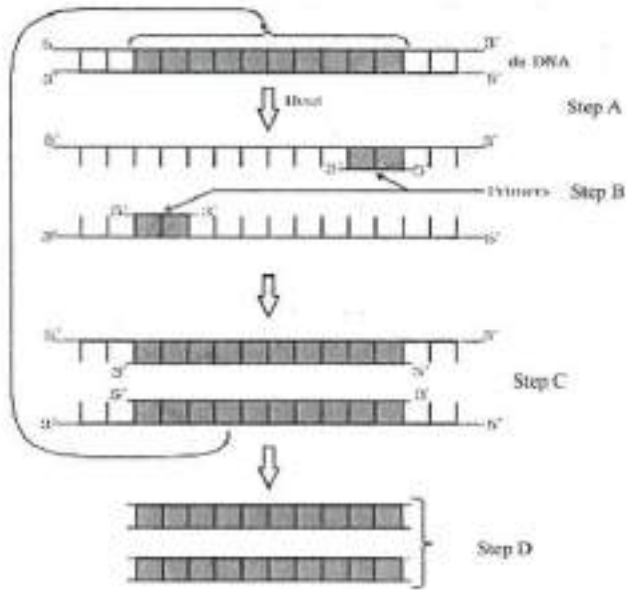
Question Number : 47 Question Id : 48558436432 Question Type : MCQ Option Shuffling : No Is Question Mandatory : No Calculator : None Response Time : N.A Think Time : N.A Minimum Instruction Time : 0

Correct Marks : 5 Wrong Marks : 1

Question Key Details :

Key	Value
Comprehension	Comp2

താഴെ കൊടുത്തിരിക്കുന്ന ചിത്രങ്ങൾ നോക്കി വരെ ചോദ്യങ്ങൾക്ക് ഉത്തരമെഴുതുക



ഓക്ടാക് പോളിമെറസീൽ ഏന്തിനെ കാണിക്കുന്നു -

1. ടൈമിൻ അക്ഷ
2. ടൈമിൻ അക്വാട്ടിക്കസ്
3. ടൈമിൻ അക്ഷ
4. ടൈമിൻ അക്വാട്ടിക്കസ്

Options :

- 485584145725. 1
- 485584145726. 2
- 485584145727. 3
- 485584145728. 4

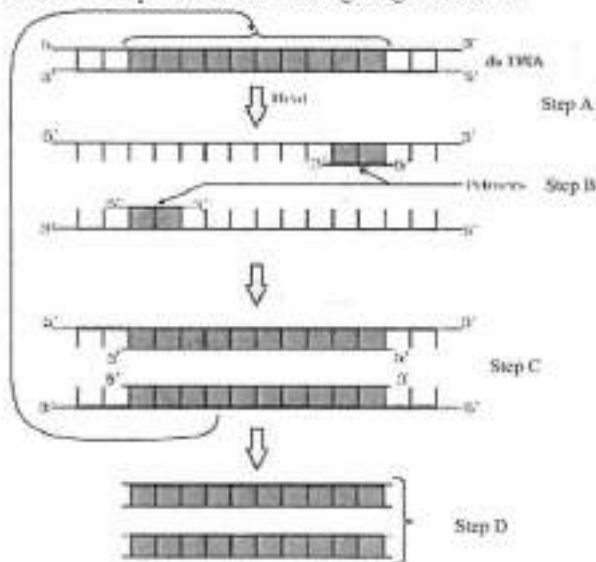
Question Number : 48 Question Id : 48558436433 Question Type : MCQ Option Shuffling : No Is Question Mandatory : No Calculator : None Response Time : N.A Think Time : N.A Minimum Instruction Time : 0

Correct Marks : 5 Wrong Marks : 1

Question Key Details :

Key	Value
Comprehension	Comp2

Answer the questions from the figure given below:



Taq polymerase is the preferred DNA polymerase in PCR because :

1. It is obtained from a fast breeding bacteria.
2. It can bind with the primers efficiently.
3. It remains active during high temperature.
4. It has high turnover rate.

Options :

- 485584145729. 1
- 485584145730. 2
- 485584145731. 3
- 485584145732. 4

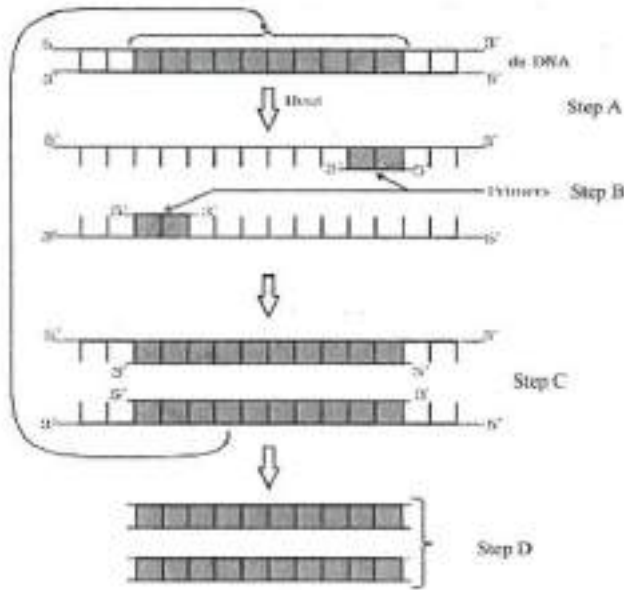
Question Number : 48 Question Id : 48558436433 Question Type : MCQ Option Shuffling : No Is Question Mandatory : No Calculator : None Response Time : N.A Think Time : N.A Minimum Instruction Time : 0

Correct Marks : 5 Wrong Marks : 1

Question Key Details :

Key	Value
Comprehension	Comp2

താഴെ കൊടുത്തിരിക്കുന്ന ചിത്രങ്ങൾ നോക്കി വരെ ചോദ്യങ്ങൾക്ക് ഉത്തരമെഴുതുക



താഴെ പോളിമെറാസ് PCR ന് സ്വീകാര്യമായ ഡി.എൻ.എ ആവാൻ കാരണം

1. അത് അതിവേഗം പെറ്റുപെരുകുന്ന ബാക്ടീരിയയിൽ നിന്നാണ് ലഭിക്കുന്നത്
2. അതിനെ പ്രൈമറുകളുമായി ഫലപ്രദമായി ബന്ധിപ്പിക്കാൻ കഴിയും
3. ഉന്നത ഊഷ്മാവിലും അവ സജീവമായി അവശേഷിക്കുന്നു
4. അതിന് ഉയർന്ന തേടിനോവൽ നിരക്കുണ്ട്

Options :

- 485584145729. 1
- 485584145730. 2
- 485584145731. 3
- 485584145732. 4

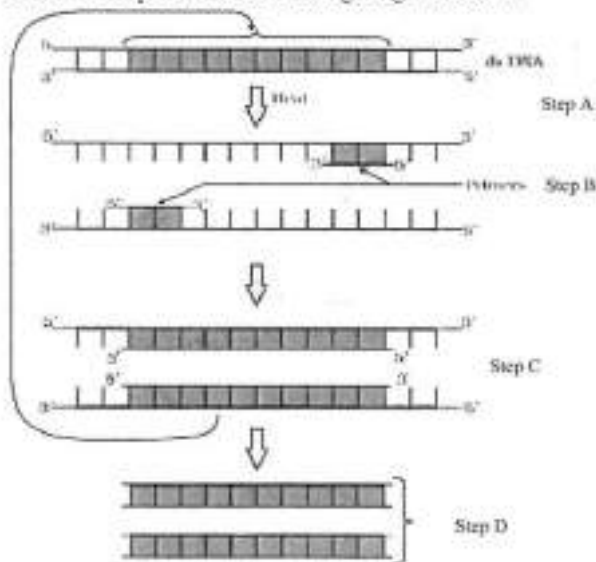
Question Number : 49 Question Id : 48558436434 Question Type : MCQ Option Shuffling : No Is Question Mandatory : No Calculator : None Response Time : N.A Think Time : N.A Minimum Instruction Time : 0

Correct Marks : 5 Wrong Marks : 1

Question Key Details :

Key	Value
Comprehension	Comp2

Answer the questions from the figure given below:



The step 'D' in the figure depicts:

1. Region where the restriction enzyme cuts.
2. An important gene of interest
3. Primer joining region
4. Only amplified product

Options :

- 485584145733. 1
- 485584145734. 2
- 485584145735. 3
- 485584145736. 4

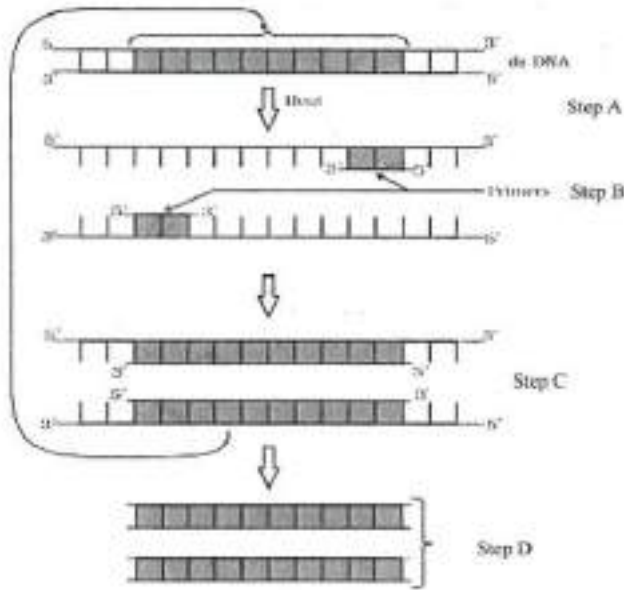
Question Number : 49 Question Id : 48558436434 Question Type : MCQ Option Shuffling : No Is Question Mandatory : No Calculator : None Response Time : N.A Think Time : N.A Minimum Instruction Time : 0

Correct Marks : 5 Wrong Marks : 1

Question Key Details :

Key	Value
Comprehension	Comp2

താഴെ കൊടുത്തിരിക്കുന്ന ചിത്രങ്ങൾ നോക്കി വരെ ചോദ്യങ്ങൾക്ക് ഉത്തരമെഴുതുക



മേൽപ്പറഞ്ഞ ചിത്രത്തിൽ സ്പെഷ് റഫറന്സിനെ കാണിക്കുന്നു -

1. സെൻട്രിക്ഷൻ എൻസൈം കുറയ്ക്കുന്ന റീജിയൻ (പ്രദേശം)
2. താലൂര്യം ഉളവാക്കുന്ന പ്രധാന ജീൻ
3. പ്രൈമർ വന്നുചേരുന്ന പ്രദേശം
4. തെംപ്ലിഫൈഡ് ഉല്പന്നം മാത്രം

Options :

- 485584145733. 1
- 485584145734. 2
- 485584145735. 3
- 485584145736. 4

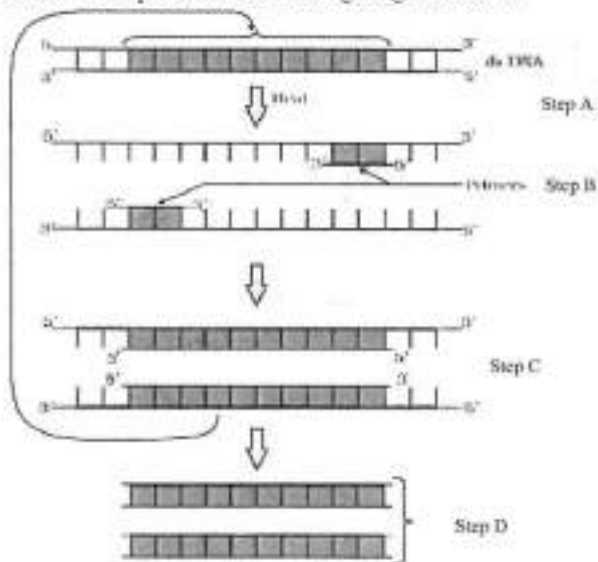
Question Number : 50 Question Id : 48558436435 Question Type : MCQ Option Shuffling : No Is Question Mandatory : No Calculator : None Response Time : N.A Think Time : N.A Minimum Instruction Time : 0

Correct Marks : 5 Wrong Marks : 1

Question Key Details :

Key	Value
Comprehension	Comp2

Answer the questions from the figure given below:



The step 'B' in the figure is called as:

1. Termination
2. Extension
3. Annealing
4. Reannealing

Options :

- 485584145737. 1
- 485584145738. 2
- 485584145739. 3
- 485584145740. 4

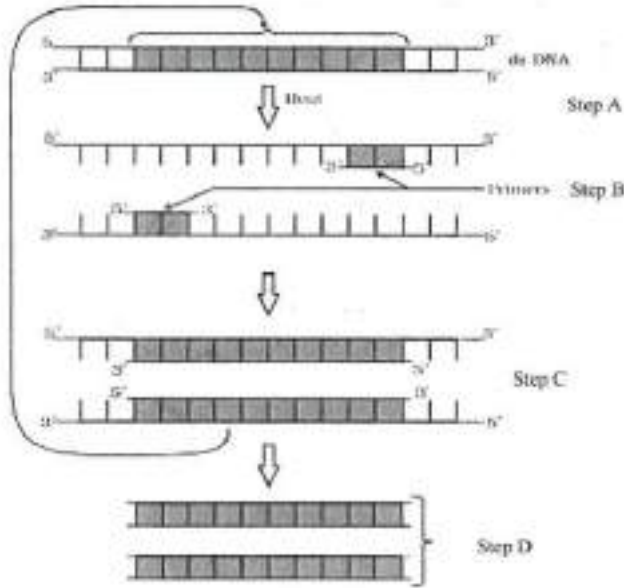
Question Number : 50 Question Id : 48558436435 Question Type : MCQ Option Shuffling : No Is Question Mandatory : No Calculator : None Response Time : N.A Think Time : N.A Minimum Instruction Time : 0

Correct Marks : 5 Wrong Marks : 1

Question Key Details :

Key	Value
Comprehension	Comp2

താഴെ കൊടുത്തിരിക്കുന്ന ചിത്രങ്ങൾ നോക്കി വരേ ചോദ്യങ്ങൾക്ക് ഉത്തരമെഴുതുക



ചിത്രത്തിലെ സ്റ്റേപ്പ് 'B' യെ വിലിക്കുന്നത് -

1. ടെർമിനേഷൻ
2. ഫ്രീംസ്റ്റൻഷൻ
3. അന്നിലിങ്ങ്
4. നീ അന്നിലിങ്ങ്

Options :

485584145737. 1
485584145738. 2
485584145739. 3
485584145740. 4

Business Studies

Group Number :	3
Group Id :	485584823
Group Maximum Duration :	45
Group Minimum Duration :	45
Show Attended Group? :	No
Edit Attended Group? :	No
Break time :	0
Group Marks :	200
Is this Group for Examiner? :	No
Examiner permission :	Cant View
Show Progress Bar? :	No

Business Studies

Section Id :	485584947
Section Number :	1
Section type :	Online
Mandatory or Optional :	Mandatory
Number of Questions :	50

Number of Questions to be attempted : 40
 Section Marks : 200
 Enable Mark as Answered Mark for Review and Clear Response : Yes
 Maximum Instruction Time : 0
 Sub-Section Number : 1
 Sub-Section Id : 4855842693
 Question Shuffling Allowed : Yes
 Is Section Default? : null

Question Number : 51 Question Id : 48558436436 Question Type : MCQ Option Shuffling : No Is Question Mandatory : No Calculator : None
 Response Time : N.A Think Time : N.A Minimum Instruction Time : 0
 Correct Marks : 5 Wrong Marks : 1
 Question Key Details :

Key	Value
Comprehension	MCQ

Which of the following is not an importance of management ?

1. Management is group activity
2. Management creates a dynamic organization
3. Management helps in the development of society
4. Management increases efficiency

Options :

485584145741. 1
485584145742. 2
485584145743. 3
485584145744. 4

Question Number : 51 Question Id : 48558436436 Question Type : MCQ Option Shuffling : No Is Question Mandatory : No Calculator : None
 Response Time : N.A Think Time : N.A Minimum Instruction Time : 0
 Correct Marks : 5 Wrong Marks : 1
 Question Key Details :

Key	Value
Comprehension	MCQ

താഴെ തന്നിട്ടുള്ളവയിൽ മാനേജ്മെന്റിന്റെ പ്രാധാന്യം അല്ലാത്തത് എന്താണ് ?

1. ഇത് ഒരു കൂട്ടു പ്രവർത്തനമാണ്
2. ഇത് ഒരു ചലനാത്മക പ്രവർത്തനമാണ്
3. ഇത് സാമൂഹിക വികസനത്തെ സഹായിക്കുന്നു
4. ഇത് കാര്യക്ഷമത വർദ്ധിപ്പിക്കുന്നു

Options :

485584145741. 1
485584145742. 2
485584145743. 3
485584145744. 4

Question Number : 52 Question Id : 48558436437 Question Type : MCQ Option Shuffling : No Is Question Mandatory : No Calculator : None
 Response Time : N.A Think Time : N.A Minimum Instruction Time : 0
 Correct Marks : 5 Wrong Marks : 1
 Question Key Details :

Key	Value
Comprehension	MCQ

Mc.Donalds, the fast food giant made major changes in its menu to be able to survive in Indian market. Which feature of management is reflected in above case ?

1. Management is an intangible force
2. Management is a dynamic function
3. Management is all pervasive
4. Management is multidimensional

Options :

- 485584145745. 1
- 485584145746. 2
- 485584145747. 3
- 485584145748. 4

Question Number : 52 Question Id : 48558436437 Question Type : MCQ Option Shuffling : No Is Question Mandatory : No Calculator : None Response Time : N.A Think Time : N.A Minimum Instruction Time : 0

Correct Marks : 5 Wrong Marks : 1

Question Key Details :

Key	Value
Comprehension	MCQ

മക്. ഡൊണൾഡ്സ് , എന്ന വ്യവസായ ഭീമൻ ഇന്ത്യയിൽ തന്റെ വ്യാപാരം നിലനിർത്താൻ മെന്റുവിൽ ഒരുപാട് മാറ്റങ്ങൾ വരുത്തി. ഇത് മാർനേജ്മെന്റിന്റെ എന്ത് സവിശേഷതയാണ് ?

1. ഇത് ഒരു അദൃശ്യ ശക്തിയാണ്
2. ഇത് ഒരു ചലനാത്മക പ്രവർത്തനമാണ്
3. ഇത് സർവ്വവ്യാപിയാണ്
4. ബഹുവിധമാനമുള്ളതാണ് ഇത്

Options :

- 485584145745. 1
- 485584145746. 2
- 485584145747. 3
- 485584145748. 4

Question Number : 53 Question Id : 48558436438 Question Type : MCQ Option Shuffling : No Is Question Mandatory : No Calculator : None Response Time : N.A Think Time : N.A Minimum Instruction Time : 0

Correct Marks : 5 Wrong Marks : 1

Question Key Details :

Key	Value
Comprehension	MCQ

"Planning is an Activity which enables a manager to look ahead and anticipate changes." Identify the point of Importance of Planning.

1. Planning reduces the risk of uncertainty
2. Planning facilitates decision making
3. Planning establishes standards for controlling
4. Planning provide directions

Options :

- 485584145749. 1
- 485584145750. 2

485584145751. 3
485584145752. 4

Question Number : 53 Question Id : 48558436438 Question Type : MCQ Option Shuffling : No Is Question Mandatory : No Calculator : None
Response Time : N.A Think Time : N.A Minimum Instruction Time : 0
Correct Marks : 5 Wrong Marks : 1

Question Key Details :

Key	Value
Comprehension	MCQ

"ഭാവിയിലോട്ടുള്ള ഒരു ചുണ്ടുപലകയും, മാറ്റങ്ങൾ പ്രതീക്ഷിച്ച് മുന്നോട്ട് പോകാൻ മാനേജർ സഹായിക്കുകയും ചെയ്യുന്ന ഒന്നാണ് പ്ലാനിംഗ് (ആസൂത്രണം)." ഇത് ആസൂത്രണത്തിന്റെ എന്ത് പ്രധാനമാണ് വ്യക്തമാക്കുന്നത് ?

1. അനിശ്ചിതത്വം എന്ന നഷ്ടസാധ്യത ലഘൂകരിക്കുന്നു.
2. തീരുമാനങ്ങളെടുക്കാൻ സഹായിക്കുന്നു.
3. നിയന്ത്രണത്തിനുള്ള നിലവാരം നിശ്ചയിക്കുന്നു.
4. ദിശാഭേദം നൽകുന്നു.

Options :

485584145749. 1
485584145750. 2
485584145751. 3
485584145752. 4

Question Number : 54 Question Id : 48558436439 Question Type : MCQ Option Shuffling : No Is Question Mandatory : No Calculator : None
Response Time : N.A Think Time : N.A Minimum Instruction Time : 0
Correct Marks : 5 Wrong Marks : 1

Question Key Details :

Key	Value
Comprehension	MCQ

Ravi is working as supervisor with Zinc limited. Identify the level of management at which Ravi is employed.

1. Top Management
2. Middle Management
3. Operational Management
4. Apex Management

Options :

485584145753. 1
485584145754. 2
485584145755. 3
485584145756. 4

Question Number : 54 Question Id : 48558436439 Question Type : MCQ Option Shuffling : No Is Question Mandatory : No Calculator : None
Response Time : N.A Think Time : N.A Minimum Instruction Time : 0
Correct Marks : 5 Wrong Marks : 1

Question Key Details :

Key	Value
Comprehension	MCQ

രവി, സിങ് ലിമിറ്റഡ് ഉള്ള സുപ്പർവൈസറായി ജോലി ചെയ്യുന്നു. രവി ജോലി ചെയ്യുന്ന മാനേജ്മെന്റിന്റെ നിലവാരം തിരിച്ചറിയുക.

1. ടോപ്പ് മാനേജ്മെന്റ്
2. മീഡിയം മാനേജ്മെന്റ്
3. പ്രവർത്തന മാനേജ്മെന്റ്
4. അപെക്സ് മാനേജ്മെന്റ്

Options :

- 485584145753. 1
- 485584145754. 2
- 485584145755. 3
- 485584145756. 4

Question Number : 55 Question Id : 48558436440 Question Type : MCQ Option Shuffling : No Is Question Mandatory : No Calculator : None Response Time : N.A Think Time : N.A Minimum Instruction Time : 0

Correct Marks : 5 Wrong Marks : 1

Question Key Details :

Key	Value
Comprehension	MCQ

In this type of Organizational structure, the cost may increase since there may be a duplication of activities across products. Identify the organizational structure.

1. Functional Structure
2. Delegated Structure
3. Divisional Structure
4. Informal Structure

Options :

- 485584145757. 1
- 485584145758. 2
- 485584145759. 3
- 485584145760. 4

Question Number : 55 Question Id : 48558436440 Question Type : MCQ Option Shuffling : No Is Question Mandatory : No Calculator : None Response Time : N.A Think Time : N.A Minimum Instruction Time : 0

Correct Marks : 5 Wrong Marks : 1

Question Key Details :

Key	Value
Comprehension	MCQ

ഇത്തരം സ്ഥാപന ഘടനയിൽ, വിവിധ ഉൽപ്പന്നങ്ങളുമായി ബന്ധപ്പെട്ട് ജോലി ഇരട്ടിപ്പ് ഉള്ളതിനാൽ ചെലവ് കൂടുന്നു. ഏതു ഘടനയാണിത് ?

1. ഫംഗ്ഷണൽ ഘടന
2. ഡെലിഗേറ്റഡ് ഘടന
3. ഡിവിഷണൽ ഘടന
4. അനൗപചാരിക ഘടന

Options :

- 485584145757. 1
- 485584145758. 2
- 485584145759. 3

485584145760. 4

Question Number : 56 Question Id : 48558436441 Question Type : MCQ Option Shuffling : No Is Question Mandatory : No Calculator : None Response Time : N.A Think Time : N.A Minimum Instruction Time : 0

Correct Marks : 5 Wrong Marks : 1

Question Key Details :

Key	Value
Comprehension	MCQ

Divisional Structure is based on _____.

1. Product Lines
2. Functional Lines
3. Informal Basis
4. Occupational Specialization

Options :

- 485584145761. 1
- 485584145762. 2
- 485584145763. 3
- 485584145764. 4

Question Number : 56 Question Id : 48558436441 Question Type : MCQ Option Shuffling : No Is Question Mandatory : No Calculator : None Response Time : N.A Think Time : N.A Minimum Instruction Time : 0

Correct Marks : 5 Wrong Marks : 1

Question Key Details :

Key	Value
Comprehension	MCQ

വിഭാഗങ്ങൾ അടിസ്ഥാനമാക്കിയുള്ള (ഡിവിഷണൽ) ഘടന എന്തിലധിഷ്ഠിതമാണ് ?

1. ഉൽപ്പന്ന നിരകൾ
2. പ്രവർത്തന നിരകൾ
3. അനൗപചാരിക അടിസ്ഥാനത്തിൽ
4. തൊഴിൽ വൈദഗ്ദ്ധ്യം

Options :

- 485584145761. 1
- 485584145762. 2
- 485584145763. 3
- 485584145764. 4

Question Number : 57 Question Id : 48558436442 Question Type : MCQ Option Shuffling : No Is Question Mandatory : No Calculator : None Response Time : N.A Think Time : N.A Minimum Instruction Time : 0

Correct Marks : 5 Wrong Marks : 1

Question Key Details :

Key	Value
Comprehension	MCQ

_____ can be delegated.

1. Responsibility
2. Authority
3. Accountability
4. Answerability

Options :

- 485584145765. 1
- 485584145766. 2
- 485584145767. 3
- 485584145768. 4

Question Number : 57 Question Id : 48558436442 Question Type : MCQ Option Shuffling : No Is Question Mandatory : No Calculator : None Response Time : N.A Think Time : N.A Minimum Instruction Time : 0

Correct Marks : 5 Wrong Marks : 1

Question Key Details :

Key	Value
Comprehension	MCQ

_____ കൈമാറ്റം ചെയ്യാൻ പറ്റും.

1. ഉത്തരവാദിത്വം
2. അധികാരം
3. കണക്ക് കാണിക്കേണ്ട ബാധ്യത
4. ഉത്തരം പറയേണ്ട ബാധ്യത

Options :

- 485584145765. 1
- 485584145766. 2
- 485584145767. 3
- 485584145768. 4

Question Number : 58 Question Id : 48558436443 Question Type : MCQ Option Shuffling : No Is Question Mandatory : No Calculator : None Response Time : N.A Think Time : N.A Minimum Instruction Time : 0

Correct Marks : 5 Wrong Marks : 1

Question Key Details :

Key	Value
Comprehension	MCQ

_____ Test is a measure of individuals potential for learning new skills.

1. Trade tests
2. Personality tests
3. Aptitude tests
4. Intelligence tests

Options :

- 485584145769. 1
- 485584145770. 2
- 485584145771. 3
- 485584145772. 4

Question Number : 58 Question Id : 48558436443 Question Type : MCQ Option Shuffling : No Is Question Mandatory : No Calculator : None Response Time : N.A Think Time : N.A Minimum Instruction Time : 0

Correct Marks : 5 Wrong Marks : 1

Question Key Details :

Key	Value
Comprehension	MCQ

_____ ഒരു വ്യക്തിക്ക് പുതിയ കാര്യങ്ങൾ മനസ്സിലാക്കാനുള്ള കഴിവ് അളക്കാനുള്ള പരീക്ഷ ആണ്.

1. തൊഴിൽ പരീക്ഷകൾ
2. വ്യക്തിത്വ പരീക്ഷകൾ
3. അഭിരുചി പരീക്ഷകൾ
4. ബൗദ്ധിക പരീക്ഷകൾ

Options :

- 485584145769. 1
- 485584145770. 2
- 485584145771. 3
- 485584145772. 4

Question Number : 59 Question Id : 48558436444 Question Type : MCQ Option Shuffling : No Is Question Mandatory : No Calculator : None Response Time : N.A Think Time : N.A Minimum Instruction Time : 0

Correct Marks : 5 Wrong Marks : 1

Question Key Details :

Key	Value
Comprehension	MCQ

"Many reputed organizations keep a database of unsolicited applications in their offices based on which a list of job-seekers can be prepared and can be screened to fill the vacancies as they arise". Identify the source referred of recruitment above.

1. Direct Recruitment
2. Campus Recruitment
3. Labour Contractors
4. Casual Callers

Options :

- 485584145773. 1
- 485584145774. 2
- 485584145775. 3
- 485584145776. 4

Question Number : 59 Question Id : 48558436444 Question Type : MCQ Option Shuffling : No Is Question Mandatory : No Calculator : None Response Time : N.A Think Time : N.A Minimum Instruction Time : 0

Correct Marks : 5 Wrong Marks : 1

Question Key Details :

Key	Value
Comprehension	MCQ

"എല്ലാ സ്ഥാപനങ്ങളും തൊഴിലന്വേഷകരിൽ നിന്നും ലഭിക്കുന്ന അപേക്ഷകൾ ഉപയോഗിച്ച് ഒരു ഡെറ്റാബേസ് ഉണ്ടാക്കുകയും, ഒഴുവുകൾ വരും മുമ്പ് അതിൽ നിന്നും ഉദ്യോഗാർത്ഥികളെ വിളിക്കുന്നതും ആണ്. ഇത് ഏത് തരം നിക്രൂട്ട്മെന്റ് ആണ് ?

1. നേരിട്ടുള്ള നിക്രൂട്ട്മെന്റ്
2. കാമ്പസ് നിക്രൂട്ട്മെന്റ്
3. തൊഴിൽക്കരാറുകാർ
4. ജോലി അന്വേഷകരുടെ പട്ടിക

Options :

- 485584145773. 1
- 485584145774. 2
- 485584145775. 3
- 485584145776. 4

Question Number : 60 Question Id : 48558436445 Question Type : MCQ Option Shuffling : No Is Question Mandatory : No Calculator : None Response Time : N.A Think Time : N.A Minimum Instruction Time : 0

Correct Marks : 5 Wrong Marks : 1

Question Key Details :

Key	Value
Comprehension	MCQ

It involves shifting of an employee from one job to another, one department to another or from one shift to another, without a substantive change in the responsibilities and status of an employee. It is known as _____.

1. Training
2. Transfer
3. Promotion
4. Development

Options :

- 485584145777. 1
- 485584145778. 2
- 485584145779. 3
- 485584145780. 4

Question Number : 60 Question Id : 48558436445 Question Type : MCQ Option Shuffling : No Is Question Mandatory : No Calculator : None Response Time : N.A Think Time : N.A Minimum Instruction Time : 0

Correct Marks : 5 Wrong Marks : 1

Question Key Details :

Key	Value
Comprehension	MCQ

ജീവനക്കാരെ അവരുടെ ഉത്തരവാദിത്വവും അധികാരവും മാറ്റാതെ ഒരു ജോലിയിൽ നിന്നോ ഒരു ഡിപ്പാർട്ട്മെന്റിൽ നിന്നോ മറ്റൊന്നിലേക്ക് മാറ്റുന്നത്, എന്താണ് ?

1. പരിശീലനം
2. സ്ഥലമാറ്റം
3. സ്ഥാനക്കയറ്റം
4. വികസനം

Options :

- 485584145777. 1
- 485584145778. 2
- 485584145779. 3
- 485584145780. 4

Question Number : 61 Question Id : 48558436446 Question Type : MCQ Option Shuffling : No Is Question Mandatory : No Calculator : None Response Time : N.A Think Time : N.A Minimum Instruction Time : 0

Correct Marks : 5 Wrong Marks : 1

Question Key Details :

Key	Value
Comprehension	MCQ

Organizational barriers to communication do not include :

- 1. Rules and regulations
- 2. Status
- 3. Organizational Policy
- 4. Lack of attention

Options :

- 485584145781. 1
- 485584145782. 2
- 485584145783. 3
- 485584145784. 4

Question Number : 61 Question Id : 48558436446 Question Type : MCQ Option Shuffling : No Is Question Mandatory : No Calculator : None Response Time : N.A Think Time : N.A Minimum Instruction Time : 0

Correct Marks : 5 Wrong Marks : 1

Question Key Details :

Key	Value
Comprehension	MCQ

ആശയവിനിമയത്തിലെ സ്ഥാപനപരമായ തടസ്സങ്ങളിൽ ചുവടെ തന്നിട്ടുള്ളവയിൽ ഏത് ഉൾപ്പെടില്ല :

- 1. നിയമങ്ങളും ചട്ടങ്ങളും
- 2. പദവി
- 3. സ്ഥാപനത്തിന്റെ നയങ്ങൾ
- 4. ശ്രദ്ധയില്ലായ്മ

Options :

- 485584145781. 1
- 485584145782. 2
- 485584145783. 3
- 485584145784. 4

Question Number : 62 Question Id : 48558436447 Question Type : MCQ Option Shuffling : No Is Question Mandatory : No Calculator : None Response Time : N.A Think Time : N.A Minimum Instruction Time : 0

Correct Marks : 5 Wrong Marks : 1

Question Key Details :

Key	Value
Comprehension	MCQ

_____ means giving more autonomy and power to subordinates. This feeling contributes positively to the use of skills and talents in the job performance.

1. Employee Recognition Programme
2. Employee Empowerment
3. Status
4. Job Security

Options :

- 485584145785. 1
- 485584145786. 2
- 485584145787. 3
- 485584145788. 4

Question Number : 62 Question Id : 48558436447 Question Type : MCQ Option Shuffling : No Is Question Mandatory : No Calculator : None Response Time : N.A Think Time : N.A Minimum Instruction Time : 0

Correct Marks : 5 Wrong Marks : 1

Question Key Details :

Key	Value
Comprehension	MCQ

_____ കീഴ് ജീവനക്കാർക്ക് കൂടുതൽ അധികാരം നൽകുന്നു. ഇത് അവർക്ക് അവരുടെ കഴിവുകൾ വളരെ നല്ല രീതിയിൽ തൊഴിൽ ചെയ്യുമ്പോൾ ഉപയോഗിക്കാൻ സാധിക്കുന്നു.

1. ജീവനക്കാരെ അംഗീകരിക്കുന്ന പരിപാടികൾ
2. ജീവനക്കാരുടെ ശാക്തീകരണം
3. പദവി
4. ജോലി സുരക്ഷിതത്വം

Options :

- 485584145785. 1
- 485584145786. 2
- 485584145787. 3
- 485584145788. 4

Question Number : 63 Question Id : 48558436448 Question Type : MCQ Option Shuffling : No Is Question Mandatory : No Calculator : None Response Time : N.A Think Time : N.A Minimum Instruction Time : 0

Correct Marks : 5 Wrong Marks : 1

Question Key Details :

Key	Value
Comprehension	MCQ

Which type of leader does not believe in the use of power unless it is absolutely essential ?

1. Free-rein / Laissez faire leader
2. Democratic leader
3. Autocratic leader
4. Participative leader

Options :

- 485584145789. 1
- 485584145790. 2
- 485584145791. 3

485584145792. 4

Question Number : 63 Question Id : 48558436448 Question Type : MCQ Option Shuffling : No Is Question Mandatory : No Calculator : None Response Time : N.A Think Time : N.A Minimum Instruction Time : 0

Correct Marks : 5 Wrong Marks : 1

Question Key Details :

Key	Value
Comprehension	MCQ

അനാവശ്യമായി അധികാരം ഉപയോഗിക്കേണ്ടതില്ല എന്ന് വിശ്വസിക്കുന്നത് ഏത് തരം നേതാവ് ആണ് ?

1. പ്രമീ-റിൻ / ലേസിൻ ഫെയർ നേതാവ്
2. ജനാധിപത്യ നേതാവ്
3. സ്വേച്ഛാതിപത്യ നേതാവ്
4. പങ്കാളിത്തനേതാവ്

Options :

- 485584145789. 1
- 485584145790. 2
- 485584145791. 3
- 485584145792. 4

Question Number : 64 Question Id : 48558436449 Question Type : MCQ Option Shuffling : No Is Question Mandatory : No Calculator : None Response Time : N.A Think Time : N.A Minimum Instruction Time : 0

Correct Marks : 5 Wrong Marks : 1

Question Key Details :

Key	Value
Comprehension	MCQ

The incentive is offered over and above the wages/salary to the employees is _____.

1. Project Sharing
2. Pay or Allowances
3. Perquisites
4. Bonus

Options :

- 485584145793. 1
- 485584145794. 2
- 485584145795. 3
- 485584145796. 4

Question Number : 64 Question Id : 48558436449 Question Type : MCQ Option Shuffling : No Is Question Mandatory : No Calculator : None Response Time : N.A Think Time : N.A Minimum Instruction Time : 0

Correct Marks : 5 Wrong Marks : 1

Question Key Details :

Key	Value
Comprehension	MCQ

ശബളത്തിനെക്കുറിച്ചോ കൂലിയെക്കുറിച്ചോ കൂടുതൽ തുക പ്രോത്സാഹനമായി നൽകുന്നതിനെ _____ എന്ന് വിളിക്കും.

1. ലാഭം പങ്കുവയ്ക്കുക
2. ശബളവും ബത്തകളും
3. വിജ്യാർത്ഥം തിരിച്ചടയ്ക്കലും
4. ലാഭവിഹിതം

Options :

- 485584145793. 1
- 485584145794. 2
- 485584145795. 3
- 485584145796. 4

Question Number : 65 Question Id : 48558436450 Question Type : MCQ Option Shuffling : No Is Question Mandatory : No Calculator : None Response Time : N.A Think Time : N.A Minimum Instruction Time : 0

Correct Marks : 5 Wrong Marks : 1

Question Key Details :

Key	Value
Comprehension	MCQ

Ashok went to a shop to buy a tooth paste. The shopkeeper showed him different varieties of toothpaste available in his shop. Ashok took one of them but had an allergy after using it. He later on checked that the product had crossed its expiry date. Which responsibility has Ashok ignored as a customer?

1. Read labels carefully for information such as net weight, price, expiry date etc.
2. Assert that you get a fair deal
3. Ask for a cash memo
4. Avoid waste, littering and contributing to pollution

Options :

- 485584145797. 1
- 485584145798. 2
- 485584145799. 3
- 485584145800. 4

Question Number : 65 Question Id : 48558436450 Question Type : MCQ Option Shuffling : No Is Question Mandatory : No Calculator : None Response Time : N.A Think Time : N.A Minimum Instruction Time : 0

Correct Marks : 5 Wrong Marks : 1

Question Key Details :

Key	Value
Comprehension	MCQ

അശോകൻ ഒരു ദൂതൻ പേസ്റ്റ് വാങ്ങാൻ ഒരു കടയിലേക്ക് പോയി. അത് ഉപയോഗിച്ചതിന് ശേഷം കടയുടെ അടുപ്പത്തിന് വ്യത്യസ്തമായ അലർജി കാണിച്ചു. ഉൽപ്പന്നത്തിന്റെ കാലാവധി കഴിഞ്ഞതായി അദ്ദേഹം പിന്നീട് പരിശോധിച്ചു. ഒരു ഉപഭോക്താവെന്ന നിലയിൽ എന്ത് ഉത്തരവാദിത്തമാണ് അശോക അവഗണിച്ചത്?

1. അറ്റ ഭാരം, വില, കാലഹരണപ്പെടുന്ന തീയതി തുടങ്ങിയ വിവരങ്ങൾക്കായി ലേബലുകൾ ശ്രദ്ധാപൂർവ്വം വായിക്കുക.
2. നിങ്ങൾക്ക് ന്യായമായ ഡീൽ ലഭിക്കുമെന്ന് ഉറപ്പിക്കുക.
3. ക്യാഷ് മെമ്മോ ആവശ്യപ്പെടുക.
4. മാലിന്യം, മാലിന്യം തള്ളൽ, മലിനീകരണം എന്നിവ ഒഴിവാക്കുക.

Options :

- 485584145797. 1
- 485584145798. 2
- 485584145799. 3
- 485584145800. 4

Question Number : 66 Question Id : 48558436451 Question Type : MCQ Option Shuffling : No Is Question Mandatory : No Calculator : None Response Time : N.A Think Time : N.A Minimum Instruction Time : 0

Correct Marks : 5 Wrong Marks : 1

Question Key Details :

Key	Value
Comprehension	MCQ

It is mandatory for the manufactures to provide information such as ingredients, date of manufacture, price, directions for use, price etc. The consumer right highlighted here is-

1. Right to safety
2. Right to be informed
3. Right to be heard
4. Right to Consumer Education

Options :

- 485584145801. 1
- 485584145802. 2
- 485584145803. 3
- 485584145804. 4

Question Number : 66 Question Id : 48558436451 Question Type : MCQ Option Shuffling : No Is Question Mandatory : No Calculator : None Response Time : N.A Think Time : N.A Minimum Instruction Time : 0

Correct Marks : 5 Wrong Marks : 1

Question Key Details :

Key	Value
Comprehension	MCQ

ചേരുവകൾ, നിർമ്മാണ തീയതി, വില, ഉപയോഗത്തിനുള്ള ദിശകൾ, വില തുടങ്ങിയ വിവരങ്ങൾ നിർമ്മാതാക്കൾ നൽകേണ്ടത് നിർബന്ധമാണ്. ഇവിടെ എടുത്തുകാണിച്ചിരിക്കുന്ന ഉപഭോക്തൃ അവകാശം ഇതാണ്-

1. സുരക്ഷിതത്വത്തിനുള്ള അവകാശം
2. അറിയിക്കാനുള്ള അവകാശം
3. കേൾക്കാനുള്ള അവകാശം
4. ഉപഭോക്തൃ വിദ്യാഭ്യാസത്തിനുള്ള അവകാശം

Options :

- 485584145801. 1
- 485584145802. 2
- 485584145803. 3
- 485584145804. 4

Question Number : 67 Question Id : 48558436452 Question Type : MCQ Option Shuffling : No Is Question Mandatory : No Calculator : None Response Time : N.A Think Time : N.A Minimum Instruction Time : 0

Correct Marks : 5 Wrong Marks : 1

Question Key Details :

Key	Value
Comprehension	MCQ

Net working capital is computed as _____.

1. Gross current assets
2. Gross current assets - total debt
3. Current assets - External debt
4. Current assets - Current liabilities

Options :

- 485584145805. 1
- 485584145806. 2
- 485584145807. 3
- 485584145808. 4

Question Number : 67 Question Id : 48558436452 Question Type : MCQ Option Shuffling : No Is Question Mandatory : No Calculator : None Response Time : N.A Think Time : N.A Minimum Instruction Time : 0

Correct Marks : 5 Wrong Marks : 1

Question Key Details :

Key	Value
Comprehension	MCQ

പ്രവർത്തന മൂലധനം = _____.

1. അകെ ഹ്യൂസ്സകാല ആസ്തികൾ
2. അകെ ഹ്യൂസ്സകാല ആസ്തികൾ - അകെ കടം
3. ഹ്യൂസ്സകാല ആസ്തികൾ - ബാഹ്യ കടം
4. ഹ്യൂസ്സകാല ആസ്തികൾ - ഹ്യൂസ്സകാല ബാധ്യതകൾ

Options :

- 485584145805. 1
- 485584145806. 2
- 485584145807. 3
- 485584145808. 4

Question Number : 68 Question Id : 48558436453 Question Type : MCQ Option Shuffling : No Is Question Mandatory : No Calculator : None Response Time : N.A Think Time : N.A Minimum Instruction Time : 0

Correct Marks : 5 Wrong Marks : 1

Question Key Details :

Key	Value
Comprehension	MCQ

_____ of a company affects both the profitability and the financial risk.

1. Working Capital
2. Capital Structure
3. Fixed Capital
4. Dividend decision

Options :

- 485584145809. 1
- 485584145810. 2
- 485584145811. 3
- 485584145812. 4

Question Number : 68 Question Id : 48558436453 Question Type : MCQ Option Shuffling : No Is Question Mandatory : No Calculator : None Response Time : N.A Think Time : N.A Minimum Instruction Time : 0

Correct Marks : 5 Wrong Marks : 1

Question Key Details :

Key	Value
Comprehension	MCQ

ലാഭത്തെയും അപ്രതീക്ഷിത നഷ്ട സാധ്യതകളെയും ഒരു കമ്പനിയുടെ _____ ബാധിക്കും.

1. പ്രവർത്തന മൂലധനം
2. മൂലധന ഘടന
3. സ്ഥിര മൂലധനം
4. ലാഭവിഹിത തീരുമാനം

Options :

- 485584145809. 1
- 485584145810. 2
- 485584145811. 3
- 485584145812. 4

Question Number : 69 Question Id : 48558436454 Question Type : MCQ Option Shuffling : No Is Question Mandatory : No Calculator : None Response Time : N.A Think Time : N.A Minimum Instruction Time : 0

Correct Marks : 5 Wrong Marks : 1

Question Key Details :

Key	Value
Comprehension	MCQ

Identify the decision in which a company has to choose where to invest its resources so that it is able to earn the maximum possible return for their investors.

1. Working capital decision
2. Financing decision
3. Dividend decision
4. Investment decision

Options :

- 485584145813. 1
- 485584145814. 2
- 485584145815. 3
- 485584145816. 4

Question Number : 69 Question Id : 48558436454 Question Type : MCQ Option Shuffling : No Is Question Mandatory : No Calculator : None Response Time : N.A Think Time : N.A Minimum Instruction Time : 0

Correct Marks : 5 Wrong Marks : 1

Question Key Details :

Key	Value
Comprehension	MCQ

ഒരു കമ്പനി തങ്ങളുടെ നിക്ഷേപകൾക്ക് സാധ്യമായ പരമാവധി വരുമാനം നേടുന്നതിന് അതിന്റെ വിഭവങ്ങൾ എവിടെ നിക്ഷേപിക്കണമെന്ന് തിരഞ്ഞെടുക്കേണ്ട തീരുമാനം തിരിച്ചറിയുക.

1. പ്രവർത്തന മൂലധന തീരുമാനം
2. ധനകാര്യ തീരുമാനം
3. ഡിവിഡന്റ് തീരുമാനം
4. നിക്ഷേപ തീരുമാനം

Options :

- 485584145813. 1
- 485584145814. 2
- 485584145815. 3
- 485584145816. 4

Question Number : 70 Question Id : 48558436455 Question Type : MCQ Option Shuffling : No Is Question Mandatory : No Calculator : None Response Time : N.A Think Time : N.A Minimum Instruction Time : 0

Correct Marks : 5 Wrong Marks : 1

Question Key Details :

Key	Value
Comprehension	MCQ

Select the term that indicates Principles of Management are not rigid prescriptions.

1. Human behaviour
2. Mainly behaviour
3. Contingent
4. Flexible

Options :

- 485584145817. 1
- 485584145818. 2
- 485584145819. 3

485584145820. 4

Question Number : 70 Question Id : 48558436455 Question Type : MCQ Option Shuffling : No Is Question Mandatory : No Calculator : None Response Time : N.A Think Time : N.A Minimum Instruction Time : 0

Correct Marks : 5 Wrong Marks : 1

Question Key Details :

Key	Value
Comprehension	MCQ

മാനേജ്മെന്റിന്റെ തത്വങ്ങൾ കർശനമായ കുറിപ്പടികളല്ലെന്ന് സൂചിപ്പിക്കുന്ന പദം തിരഞ്ഞെടുക്കുക.

1. മനുഷ്യ സ്വഭാവം
2. മുഖ്യമായ പെരുമാറ്റം
3. കണ്ടിഷൻ്റ്
4. ഷെക്സിബിൾ

Options :

- 485584145817. 1
- 485584145818. 2
- 485584145819. 3
- 485584145820. 4

Question Number : 71 Question Id : 48558436456 Question Type : MCQ Option Shuffling : No Is Question Mandatory : No Calculator : None Response Time : N.A Think Time : N.A Minimum Instruction Time : 0

Correct Marks : 5 Wrong Marks : 1

Question Key Details :

Key	Value
Comprehension	MCQ

" People and materials must be in suitable places at appropriate time for maximum efficiency."

Application of this principle will lead to:

1. Hindrance in the activities of business/factory
2. Increased productivity and efficiency
3. No discrimination against anyone
4. Justice and kindness in the behaviour of managers.

Options :

- 485584145821. 1
- 485584145822. 2
- 485584145823. 3
- 485584145824. 4

Question Number : 71 Question Id : 48558436456 Question Type : MCQ Option Shuffling : No Is Question Mandatory : No Calculator : None Response Time : N.A Think Time : N.A Minimum Instruction Time : 0

Correct Marks : 5 Wrong Marks : 1

Question Key Details :

Key	Value
Comprehension	MCQ

"പരമാവധി കാര്യക്ഷമതയ്ക്കായി ആളുകളും വസ്തുക്കളും ഉചിതമായ സ്ഥലങ്ങളിൽ ഉചിതമായ സമയത്ത് ഉണ്ടായിരിക്കണം."
ഈ തത്വത്തിന്റെ പ്രയോഗം ഇതിലേക്ക് നയിക്കും:

1. ബിസിനസ് / ഫാക്ടറിയുടെ പ്രവർത്തനങ്ങളിൽ തടസ്സം
2. ഉൽപ്പാദനക്ഷമതയും കാര്യക്ഷമതയും വർദ്ധിപ്പിച്ചു
3. ആരോഗ്യം വിവേചനം പാടില്ല
4. മാനേജർമാരുടെ പെരുമാറ്റത്തിൽ നീതിയും ദയയും.

Options :

- 485584145821. 1
- 485584145822. 2
- 485584145823. 3
- 485584145824. 4

Question Number : 72 Question Id : 48558436457 Question Type : MCQ Option Shuffling : No Is Question Mandatory : No Calculator : None Response Time : N.A Think Time : N.A Minimum Instruction Time : 0

Correct Marks : 5 Wrong Marks : 1

Question Key Details :

Key	Value
Comprehension	MCQ

In the principle of Scalar Chain, the shortest route for communication in case of emergency is called:

1. Gang Plank
2. Special route
3. Formal route
4. Protocol

Options :

- 485584145825. 1
- 485584145826. 2
- 485584145827. 3
- 485584145828. 4

Question Number : 72 Question Id : 48558436457 Question Type : MCQ Option Shuffling : No Is Question Mandatory : No Calculator : None Response Time : N.A Think Time : N.A Minimum Instruction Time : 0

Correct Marks : 5 Wrong Marks : 1

Question Key Details :

Key	Value
Comprehension	MCQ

സ്കെലാർ ചെയിൻ തത്വത്തിൽ, അടിയന്തിര സാഹചര്യങ്ങളിൽ ആശയവിനിമയത്തിനുള്ള ഏറ്റവും ചെറിയ വൃട്ട് വിളിക്കുന്നു:

1. ഗ്യാങ് പ്ലാങ്ക്
2. പ്രത്യേക വൃട്ട്
3. ഔദ്യോഗിക വൃട്ട്
4. പ്രോട്ടോക്കോൾ

Options :

- 485584145825. 1
- 485584145826. 2

485584145827. 3
485584145828. 4

Question Number : 73 Question Id : 48558436458 Question Type : MCQ Option Shuffling : No Is Question Mandatory : No Calculator : None Response Time : N.A Think Time : N.A Minimum Instruction Time : 0 Correct Marks : 5 Wrong Marks : 1

Question Key Details :

Key	Value
Comprehension	MCQ

If any party is not satisfied by the order of District Commission, then appeal against such order can be made to state commission within a period of _____ days from the date of order.

- 1. Forty five
- 2. Thirty
- 3. Sixty
- 4. Forty

Options :

485584145829. 1
485584145830. 2
485584145831. 3
485584145832. 4

Question Number : 73 Question Id : 48558436458 Question Type : MCQ Option Shuffling : No Is Question Mandatory : No Calculator : None Response Time : N.A Think Time : N.A Minimum Instruction Time : 0 Correct Marks : 5 Wrong Marks : 1

Question Key Details :

Key	Value
Comprehension	MCQ

ഏതെങ്കിലും ഒരു കക്ഷിക്ക് ജില്ലാ കമ്മീഷൻ നൽകിയ ഉത്തരവിൽ സംതൃപ്തിയില്ലെങ്കിൽ അവർക്ക് എത്ര ദിവസത്തിനുള്ളിൽ സംസ്ഥാന കമ്മീഷനിൽ അപ്പീൽ നൽകാം.

- 1. 45
- 2. 30
- 3. 60
- 4. 40

Options :

485584145829. 1
485584145830. 2
485584145831. 3
485584145832. 4

Question Number : 74 Question Id : 48558436459 Question Type : MCQ Option Shuffling : No Is Question Mandatory : No Calculator : None Response Time : N.A Think Time : N.A Minimum Instruction Time : 0 Correct Marks : 5 Wrong Marks : 1

Question Key Details :

Key	Value
Comprehension	MCQ

Functions of Entrepreneurship in relation to economic Development do not include :-

1. Contribution to GDP
2. Capital Formation
3. Generation of Employment
4. Generation of Business opportunities only for same business

Options :

- 485584145833. 1
- 485584145834. 2
- 485584145835. 3
- 485584145836. 4

Question Number : 74 Question Id : 48558436459 Question Type : MCQ Option Shuffling : No Is Question Mandatory : No Calculator : None Response Time : N.A Think Time : N.A Minimum Instruction Time : 0

Correct Marks : 5 Wrong Marks : 1

Question Key Details :

Key	Value
Comprehension	MCQ

സാമ്പത്തിക പുരോഗതിയുമായി ബന്ധപ്പെട്ട് സംരംഭകരുടെ ധർമ്മങ്ങളിൽ ചുവടെ തന്നിട്ടുള്ളവയിൽ ഏത് ഉൾപ്പെടില്ല :-

1. ആഭ്യന്തര ഉൽപ്പാദനത്തിന്റെ വർദ്ധന
2. മൂലധന സ്വരൂപീകരണം
3. തൊഴിലവസരങ്ങൾ സൃഷ്ടിക്കൽ
4. അദൃശ്യ തരത്തിലുള്ള ബിസിനസുകൾക്ക് മാത്രം അവസരങ്ങൾ സൃഷ്ടിക്കുക

Options :

- 485584145833. 1
- 485584145834. 2
- 485584145835. 3
- 485584145836. 4

Question Number : 75 Question Id : 48558436460 Question Type : MCQ Option Shuffling : No Is Question Mandatory : No Calculator : None Response Time : N.A Think Time : N.A Minimum Instruction Time : 0

Correct Marks : 5 Wrong Marks : 1

Question Key Details :

Key	Value
Comprehension	MCQ

The person who combines all factors of production, who takes risk to earn profit is called entrepreneur. Entrepreneur is _____.

1. Subject
2. Verb
3. Outcome
4. Process

Options :

- 485584145837. 1
- 485584145838. 2
- 485584145839. 3
- 485584145840. 4

Question Number : 75 Question Id : 48558436460 Question Type : MCQ Option Shuffling : No Is Question Mandatory : No Calculator : None Response Time : N.A Think Time : N.A Minimum Instruction Time : 0

Correct Marks : 5 Wrong Marks : 1

Question Key Details :

Key	Value
Comprehension	MCQ

ഉൽപാദനത്തിന്റെ എല്ലാ ഘടകങ്ങളും ഒരുമിപ്പിച്ച് ലാഭം ഉണ്ടാക്കാൻ ശ്രമിക്കുന്നവരെയാണ് സംരംഭകൻ എന്ന് വിളിക്കുന്നത്. സംരംഭകൻ ഒരു _____ ആണ്.

1. വിഷയം (സബ്ജക്ട്)
2. ക്രിയ
3. ഫലം
4. പ്രക്രിയ

Options :

- 485584145837. 1
- 485584145838. 2
- 485584145839. 3
- 485584145840. 4

Question Number : 76 Question Id : 48558436461 Question Type : MCQ Option Shuffling : No Is Question Mandatory : No Calculator : None Response Time : N.A Think Time : N.A Minimum Instruction Time : 0

Correct Marks : 5 Wrong Marks : 1

Question Key Details :

Key	Value
Comprehension	MCQ

Zicon Ltd. has recently set a target of becoming market leader in sale of smart TV. Arrange the steps in the process of planning which will follow after setting of targets :

- A. Identifying alternative courses of action
- B. Implementing the plan
- C. Evaluating alternative courses
- D. Selecting an alternative
- E. Developing premises

Choose the correct answer from the options given below :

1. E, A, C, D, B
2. E, C, D, B, A
3. B, C, E, A, D
4. E, A, B, D, C

Options :

- 485584145841. 1
- 485584145842. 2
- 485584145843. 3
- 485584145844. 4

Question Number : 76 Question Id : 48558436461 Question Type : MCQ Option Shuffling : No Is Question Mandatory : No Calculator : None Response Time : N.A Think Time : N.A Minimum Instruction Time : 0

Correct Marks : 5 Wrong Marks : 1

Question Key Details :

Key	Value
Comprehension	MCQ

സീ കോൺ ലിമിറ്റഡ് സ്മാർട്ട് TV വിപണിയിൽ അഭിനീയരാകാൻ പ്രവർത്തനങ്ങൾ ആസൂത്രണം ചെയ്യുന്നു. അതിന്റെ വിവിധ ഘട്ടങ്ങൾ ക്രമമായി എഴുതുക:

- A. ബദൽ പ്രവർത്തന മാർഗ്ഗങ്ങൾ കണ്ടെത്തുക
- B. പദ്ധതികൾ നടപ്പിലാക്കുക
- C. ബദൽ പ്രവർത്തനരീതികൾ വിലയിരുത്തുക
- D. ഉചിതമായ പ്രവർത്തന രീതി തിരഞ്ഞെടുക്കുക
- E. സങ്കല്പങ്ങൾ വികസിപ്പിക്കുക

താഴെ തന്നിട്ടുള്ളവയിൽ നിന്നും ശരിയായ ഉത്തരം തിരഞ്ഞെടുക്കുക

- 1. E, A, C, D, B
- 2. E, C, D, B, A
- 3. B, C, E, A, D
- 4. E, A, B, D, C

Options :

- 485584145841. 1
- 485584145842. 2
- 485584145843. 3
- 485584145844. 4

Question Number : 77 Question Id : 48558436462 Question Type : MCQ Option Shuffling : No Is Question Mandatory : No Calculator : None Response Time : N.A Think Time : N.A Minimum Instruction Time : 0

Correct Marks : 5 Wrong Marks : 1

Question Key Details :

Key	Value
Comprehension	MCQ

Arrange the correct sequence of steps in Organizing process.

- A. Identification and division of work
- B. Establishing authority and reporting relationships
- C. Assignment of Duties
- D. Departmentalization

Choose the correct answer from the options given below :

- 1. B, C, A, D
- 2. D, A, B, C
- 3. C, B, D, A
- 4. A, D, C, B

Options :

- 485584145845. 1
- 485584145846. 2
- 485584145847. 3
- 485584145848. 4

Question Number : 77 Question Id : 48558436462 Question Type : MCQ Option Shuffling : No Is Question Mandatory : No Calculator : None Response Time : N.A Think Time : N.A Minimum Instruction Time : 0

Correct Marks : 5 Wrong Marks : 1

Question Key Details :

Key	Value
Comprehension	MCQ

സംഘടന പ്രക്രിയയിലെ വിവിധ ഘട്ടങ്ങൾ ക്രമമായി എഴുതുക.

- A. പ്രവൃത്തി തിരിച്ചറിയുകയും വിഭജിച്ച് നല്ലുകയും ചെയ്യുക
- B. അധികാരബന്ധം സ്ഥാപിക്കൽ
- C. ചുമതലകൾ നല്ലുക
- D. വകുപ്പുകളുടെ രൂപീകരണം

താഴെ തന്നിട്ടുള്ളവയിൽ നിന്നും ശരിയായ ഉത്തരം തിരഞ്ഞെടുക്കുക:

- 1. B, C, A, D
- 2. D, A, B, C
- 3. C, B, D, A
- 4. A, D, C, B

Options :

- 485584145845. 1
- 485584145846. 2
- 485584145847. 3
- 485584145848. 4

Question Number : 78 Question Id : 48558436463 Question Type : MCQ Option Shuffling : No Is Question Mandatory : No Calculator : None Response Time : N.A Think Time : N.A Minimum Instruction Time : 0

Correct Marks : 5 Wrong Marks : 1

Question Key Details :

Key	Value
Comprehension	MCQ

Mr. Prateek, the Production Manager of Zim Ltd. has selected the right workforce for his department. He decides the following steps which he would adopt in the process of staffing. Arrange them in correct sequence

- A. Performance Appraisal
- B. Compensation
- C. Placement and Orientation
- D. Promotion and Career Planning
- E. Training and development

Choose the correct answer from the options given below :

- 1. C, A, E, D, B
- 2. B, C, D, A, E
- 3. D, A, B, E, C
- 4. C, E, A, D, B

Options :

- 485584145849. 1
- 485584145850. 2
- 485584145851. 3
- 485584145852. 4

Question Number : 78 Question Id : 48558436463 Question Type : MCQ Option Shuffling : No Is Question Mandatory : No Calculator : None Response Time : N.A Think Time : N.A Minimum Instruction Time : 0

Correct Marks : 5 Wrong Marks : 1

Question Key Details :

Key	Value
Comprehension	MCQ

ശ്രീ. പ്രതീകിന് തന്റെ ഉൽപാദന വിഭാഗത്തിലേക്ക് ശരിയായ തൊഴിലാളികളെ തിരഞ്ഞെടുക്കാൻ പിൻതുടരേണ്ട ഘട്ടങ്ങളെ ക്രമമായി എഴുതുക.

- A. പ്രവർത്തന വിലയിരുത്തൽ
- B. പ്രതിഫലം നിശ്ചയിക്കൽ
- C. നിരൂപനങ്ങളും പൊതുതല്പക്ഷവും
- D. സ്ഥാനക്കയറ്റവും കുതിയർ ആസൂത്രണവും
- E. പരിശീനവും വികസനവും

താഴെ തന്നിട്ടുള്ളവയിൽ നിന്നും ശരിയായ ഉത്തരം തിരഞ്ഞെടുക്കുക :

- 1. C, A, E, D, B
- 2. B, C, D, A, E
- 3. D, A, B, E, C
- 4. C, E, A, D, B

Options :

- 485584145849. 1
- 485584145850. 2
- 485584145851. 3
- 485584145852. 4

Question Number : 79 Question Id : 48558436464 Question Type : MCQ Option Shuffling : No Is Question Mandatory : No Calculator : None Response Time : N.A Think Time : N.A Minimum Instruction Time : 0

Correct Marks : 5 Wrong Marks : 1

Question Key Details :

Key	Value
Comprehension	MCQ

Arrange the steps of trading procedure of stock exchange in the correct sequence

- A. Delivering the shares
- B. Placing an Order
- C. Opening a Demat Account
- D. Execution of the order
- E. Settlement of transaction

Choose the correct answer from the options given below :

- 1. C, A, B, D, E
- 2. C, B, D, A, E
- 3. B, A, D, C, E
- 4. B, C, A, E, D

Options :

- 485584145853. 1
- 485584145854. 2
- 485584145855. 3
- 485584145856. 4

Question Number : 79 Question Id : 48558436464 Question Type : MCQ Option Shuffling : No Is Question Mandatory : No Calculator : None Response Time : N.A Think Time : N.A Minimum Instruction Time : 0

Correct Marks : 5 Wrong Marks : 1

Question Key Details :

Key	Value
Comprehension	MCQ

സ്റ്റോക്ക് എക്സ്ചേഞ്ചിലെ വ്യാപാരത്തിന്റെ വിവിധ ഘട്ടങ്ങളെ ക്രമമായി എഴുതുക.

- A. ഓഹരി കൈമാറുന്നു
- B. ദല്ലാളന്മാർക്ക് ഓർഡർ നൽകുന്നു
- C. ഡീമാറ്റ് അക്കൗണ്ട് നടപ്പിലാക്കുക
- D. ഓർഡർ പ്രാവർത്തികമാക്കുന്നു
- E. ഇടപാട് തീർപ്പാക്കുക

താഴെ തന്നിട്ടുള്ളവയിൽ നിന്നും ശരിയായ ഉത്തരം തിരഞ്ഞെടുക്കുക:

- 1. C, A, B, D, E
- 2. C, B, D, A, E
- 3. B, A, D, A, E
- 4. B, C, A, E, D

Options :

- 485584145853. 1
- 485584145854. 2
- 485584145855. 3
- 485584145856. 4

Question Number : 80 Question Id : 48558436465 Question Type : MCQ Option Shuffling : No Is Question Mandatory : No Calculator : None Response Time : N.A Think Time : N.A Minimum Instruction Time : 0

Correct Marks : 5 Wrong Marks : 1

Question Key Details :

Key	Value
Comprehension	MCQ

Arrange the following in proper sequence.

- A. Critical Point control and management by exception
- B. Performance should be measured in an objective and reliable manner
- C. Standards are set in both Quantitative as well as Qualitative terms
- D. Reveal the deviation between actual and desired results
- E. Taking corrective action

Choose the correct answer from the options given below :

- 1. A, B, C, D, E
- 2. E, D, C, B, A
- 3. C, B, D, A, E
- 4. A, C, B, E, D

Options :

- 485584145857. 1
- 485584145858. 2
- 485584145859. 3
- 485584145860. 4

Question Number : 80 Question Id : 48558436465 Question Type : MCQ Option Shuffling : No Is Question Mandatory : No Calculator : None Response Time : N.A Think Time : N.A Minimum Instruction Time : 0

Correct Marks : 5 Wrong Marks : 1

Question Key Details :

Key	Value
Comprehension	MCQ

താഴെ നൽകിയിരിക്കുന്നവ ക്രമീകരിക്കുക

- A. നിർണ്ണായക കേന്ദ്രങ്ങളിലെ നിയന്ത്രണവും സവിശേഷമേഖലകളിലെ മാനേജ്മെന്റും
- B. പ്രകടനം വിശ്വസനീയമായ രീതിയിൽ കൃത്യതയോടെ അളക്കുക.
- C. നിലവാരം ഗുണപരമോ അളവ് പരമോ ആവാം
- D. യഥാർത്ഥ പ്രകടനം നിശ്ചയിച്ച നിലവാരവുമായി താരതമ്യപ്പെടുത്തി വ്യതിയാനം കണ്ടെത്തുക.
- E. തിരുത്തൽ നടപടികൾ സ്വീകരിക്കുക.

താഴെ തന്നിട്ടുള്ളവയിൽ നിന്നും ശരിയായ ഉത്തരം തിരഞ്ഞെടുക്കുക:

- 1. A, B, C, D, E
- 2. E, D, C, B, A
- 3. C, B, D, A, E
- 4. A, C, B, E, D

Options :

- 485584145857. 1
- 485584145858. 2
- 485584145859. 3
- 485584145860. 4

Question Number : 81 Question Id : 48558436466 Question Type : MCQ Option Shuffling : No Is Question Mandatory : No Calculator : None Response Time : N.A Think Time : N.A Minimum Instruction Time : 0

Correct Marks : 5 Wrong Marks : 1

Question Key Details :

Key	Value
Comprehension	MCQ

Identify the correct combinations of Principles of Management.

- A. Division of work and motion study
- B. Equity and scalar chain
- C. Authority and Responsibility and Method Study
- D. Discipline and Order
- E. Initiative and Fatigue Study

Choose the correct answer from the options given below :

- 1. B and D Only
- 2. A and D Only
- 3. B and E Only
- 4. C and E Only

Options :

- 485584145861. 1
- 485584145862. 2
- 485584145863. 3
- 485584145864. 4

Question Number : 81 Question Id : 48558436466 Question Type : MCQ Option Shuffling : No Is Question Mandatory : No Calculator : None Response Time : N.A Think Time : N.A Minimum Instruction Time : 0

Correct Marks : 5 Wrong Marks : 1

Question Key Details :

Key	Value
Comprehension	MCQ

മാനേജ്മെന്റ് തത്വങ്ങളുടെ ശരിയായ ജോഡി കണ്ടുപിടിക്കുക.

- A. തൊഴിൽ വിഭജനവും ചലന പഠനവും
- B. തുല്യതയും അധികാര പ്രശ്നിയും
- C. അധികാര ഉത്തരവാദിത്വങ്ങളും രീതി പഠനവും
- D. അച്ചടക്കവും ക്രമവും
- E. മുൻകൈയെടുക്കലും കഴിണിപഠനവും

താഴെ തന്നിട്ടുള്ളവയിൽ നിന്നും ശരിയായ ഉത്തരം തിരഞ്ഞെടുക്കുക:

- 1. B, D മാത്രം
- 2. A, D മാത്രം
- 3. B, E മാത്രം
- 4. C, E മാത്രം

Options :

- 485584145861. 1
- 485584145862. 2
- 485584145863. 3
- 485584145864. 4

Question Number : 82 Question Id : 48558436467 Question Type : MCQ Option Shuffling : No Is Question Mandatory : No Calculator : None Response Time : N.A Think Time : N.A Minimum Instruction Time : 0

Correct Marks : 5 Wrong Marks : 1

Question Key Details :

Key	Value
Comprehension	MCQ

Which of the following are the sources of Recruitment for a newly set organization?

- A. Unskilled workers required for unskilled work provided by labour contractor
- B. Promotion to the higher post
- C. Websites such as www.naukri.com & jobstreet etc.
- D. Recommendations of employees
- E. Recruitment from educational institutions

Choose the correct answer from the options given below :

- 1. B Only
- 2. A, C and D Only
- 3. A, C & E Only
- 4. E Only

Options :

- 485584145865. 1
- 485584145866. 2
- 485584145867. 3
- 485584145868. 4

Question Number : 82 Question Id : 48558436467 Question Type : MCQ Option Shuffling : No Is Question Mandatory : No Calculator : None Response Time : N.A Think Time : N.A Minimum Instruction Time : 0

Correct Marks : 5 Wrong Marks : 1

Question Key Details :

Key	Value
Comprehension	MCQ

പുതിയതായി തുടങ്ങുന്ന ഒരു സ്ഥാപനത്തിൽ ചുവടെ തന്നിട്ടുള്ള ഏതൊക്കെ വഴികളിലൂടെ നിക്രൂട്ട്മെന്റ് നടത്താം.

- A. തൊഴിൽക്കരാറുകാർ
- B. സ്ഥാനക്കയറ്റം
- C. വെബ് പരസ്യങ്ങൾ
- D. തൊഴിലാളികളുടെ ശുപാർശ
- E. ക്യാമ്പസ് നിക്രൂട്ട്മെന്റ്

താഴെ തന്നിട്ടുള്ളവയിൽ നിന്നും ശരിയായ ഉത്തരം തിരഞ്ഞെടുക്കുക:

- 1. B മാത്രം
- 2. A, C, D മാത്രം
- 3. A, C, D, & E മാത്രം
- 4. E മാത്രം

Options :

- 485584145865. 1
- 485584145866. 2
- 485584145867. 3
- 485584145868. 4

Question Number : 83 Question Id : 48558436468 Question Type : MCQ Option Shuffling : No Is Question Mandatory : No Calculator : None Response Time : N.A Think Time : N.A Minimum Instruction Time : 0

Correct Marks : 5 Wrong Marks : 1

Question Key Details :

Key	Value
Comprehension	MCQ

Which of the following statement/statements are not related with elements of Directing.

- A. Every manager in the organization supervise his/her subordinates
- B. It stimulates people to take up work voluntarily
- C. The process of influencing the behavior of people by making them strive voluntarily towards achievements of organizational goals
- D. Effective communication with subordinates
- E. Coordinating different functions of management

Choose the correct answer from the options given below :

- 1. E Only
- 2. A, B and D Only
- 3. D Only
- 4. B and C Only

Options :

- 485584145869. 1
- 485584145870. 2
- 485584145871. 3
- 485584145872. 4

Question Number : 83 Question Id : 48558436468 Question Type : MCQ Option Shuffling : No Is Question Mandatory : No Calculator : None Response Time : N.A Think Time : N.A Minimum Instruction Time : 0

Correct Marks : 5 Wrong Marks : 1

Question Key Details :

Key	Value
Comprehension	MCQ

മാർഗ്ഗ നിർദ്ദേശവുമായി ബന്ധപ്പെട്ട് ചുവടെ തന്നിട്ടുള്ള വസ്തുതകളിൽ ശരിയല്ലാത്തത് ഏതൊക്കെ ?

- A. എല്ലാ മാനേജർമാരും തങ്ങളുടെ കീഴ് ജീവനക്കാരുടെ പ്രവർത്തനങ്ങളിൽ മേൽനോട്ടം വഹിക്കുന്നു.
- B. ഇത് സ്ഥാപനത്തിലെ ജീവനക്കാരെ സ്വയം ജോലി ചെയ്യാനായി പ്രേരിപ്പിക്കുന്നു..
- C. ജീവനക്കാരുടെ സ്വഭാവത്തെ സ്വാധീനിക്കുകയും അതുവഴി സ്ഥാപനത്തിന്റെ നിർമ്മാണം ലക്ഷ്യങ്ങൾ നേടിയെടുക്കുന്നതിന് സ്വയം പരിശ്രമിക്കുകയും ചെയ്യുന്നു.
- D. കീഴ് ജീവനക്കാരുമായി നല്ല രീതിയിൽ ആശയവിനിമയം നടത്താൻ സാധിക്കും.
- E. മാനേജ്മെന്റിന്റെ വിവിധ പ്രവർത്തനങ്ങളെ ഏകോപിപ്പിക്കാൻ സാധിക്കും.

താഴെ തന്നിട്ടുള്ളവയിൽ നിന്നും ശരിയായ ഉത്തരം തിരഞ്ഞെടുക്കുക:

- 1. E മാത്രം
- 2. A, B, D മാത്രം
- 3. D മാത്രം
- 4. B, C മാത്രം

Options :

- 485584145869. 1
- 485584145870. 2
- 485584145871. 3
- 485584145872. 4

Question Number : 84 Question Id : 48558436469 Question Type : MCQ Option Shuffling : No Is Question Mandatory : No Calculator : None Response Time : N.A Think Time : N.A Minimum Instruction Time : 0

Correct Marks : 5 Wrong Marks : 1

Question Key Details :

Key	Value
Comprehension	MCQ

Which of the following is not related with "Critical point of control" concept?

- A. Control should focus on key result areas
- B. KRA's can never be set as critical points
- C. It is very easy and economical to keep a check on each and every activity of organization
- D. If anything goes wrong at the critical points the entire organization suffers
- E. In manufacturing organization, an increase of 5% in labour cost may be more troublesome than a 15% increase in postal charges

Choose the correct answer from the options given below :

- 1. A Only
- 2. C & B Only
- 3. C Only
- 4. D & E Only

Options :

- 485584145873. 1
- 485584145874. 2
- 485584145875. 3
- 485584145876. 4

Question Number : 84 Question Id : 48558436469 Question Type : MCQ Option Shuffling : No Is Question Mandatory : No Calculator : None Response Time : N.A Think Time : N.A Minimum Instruction Time : 0

Correct Marks : 5 Wrong Marks : 1

Question Key Details :

Key	Value
Comprehension	MCQ

ചുവടെ തന്നിട്ടുള്ളതിൽ നിർണ്ണായക കേന്ദ്രങ്ങളിലെ നിയന്ത്രണവുമായി ബന്ധമില്ലാത്തത് ഏതൊക്കെ ഏത്.

- A. സുപ്രധാന മേഖലയിൽ മാത്രം ശ്രദ്ധ കേന്ദ്രീകരിക്കുക.
- B. കീ നിസർട്ട് ഏരിയകൾ നിർണ്ണായക കേന്ദ്രമായി കണക്കാക്കരുത്.
- C. സ്ഥാപനത്തിന്റെ ഓരോ പ്രവർത്തനവും നിയന്ത്രിക്കുന്നത് എളുപ്പവും വളരെ സാമ്പത്തികമായി ലാഭവുമാണ്.
- D. നിർണ്ണായക കേന്ദ്രങ്ങൾ തിരഞ്ഞെടുക്കുന്നതിൽ ഉണ്ടാകുന്ന പാകപ്പിഴ സ്ഥാപനത്തെ മുഴുവനായി ബാധിക്കും.
- E. തൊഴിൽ ചെലവ് 3% വർദ്ധിപ്പിക്കുന്നത് തപാൽ ചെലവ് 15% വർദ്ധിപ്പിക്കുന്നതിനേക്കാൾ ഒരു വ്യവസായ സ്ഥാപനത്തെ ബാധിക്കും.

താഴെ തന്നിട്ടുള്ളവയിൽ നിന്നും ശരിയായ ഉത്തരം തിരഞ്ഞെടുക്കുക:-

- 1. A മാത്രം
- 2. C & B മാത്രം
- 3. C മാത്രം
- 4. D & E മാത്രം

Options :

- 485584145873. 1
- 485584145874. 2
- 485584145875. 3
- 485584145876. 4

Question Number : 85 Question Id : 48558436470 Question Type : MCQ Option Shuffling : No Is Question Mandatory : No Calculator : None Response Time : N.A Think Time : N.A Minimum Instruction Time : 0

Correct Marks : 5 Wrong Marks : 1

Question Key Details :

Key	Value
Comprehension	MCQ

What are the aspects of feasibility analysis under Entrepreneurship Development ?

- A. Technical Aspect
- B. Economic Aspect
- C. Financial Aspect
- D. Commercial Aspect
- E. Political Aspect

Choose the correct answer from the options given below :

- 1. A, B and C Only
- 2. A, B, D and E Only
- 3. A and B Only
- 4. A, B, C and D Only

Options :

- 485584145877. 1
- 485584145878. 2
- 485584145879. 3

Question Number : 85 Question Id : 48558436470 Question Type : MCQ Option Shuffling : No Is Question Mandatory : No Calculator : None Response Time : N.A Think Time : N.A Minimum Instruction Time : 0 Correct Marks : 5 Wrong Marks : 1

Question Key Details :

Key	Value
Comprehension	MCQ

സംരംഭക വികസനത്തിൽ സാധ്യത പഠനത്തിന്റെ വശങ്ങൾ ഏതൊക്കെയാണ് ?

- A. സാങ്കേതിക വശം
- B. സാമ്പത്തിക വശം
- C. ധനകാര്യ വശം
- D. വാണിജ്യ വശം
- E. രാഷ്ട്രീയ വശം

താഴെ തന്നിട്ടുള്ളവയിൽ നിന്നും ശരിയായ ഉത്തരം തിരഞ്ഞെടുക്കുക:

- 1. A, B, C മാത്രം
- 2. A, B, D, E മാത്രം
- 3. A, B മാത്രം
- 4. A, B, C, D മാത്രം

Options :

- 485584145877. 1
- 485584145878. 2
- 485584145879. 3
- 485584145880. 4

Question Number : 86 Question Id : 48558436471 Question Type : MCQ Option Shuffling : No Is Question Mandatory : No Calculator : None Response Time : N.A Think Time : N.A Minimum Instruction Time : 0 Correct Marks : 5 Wrong Marks : 1

Question Key Details :

Key	Value
Comprehension	MCQ

Match List I with List II

LIST I		LIST II	
A.	Economic environment	I.	Legislations Passed
B.	Social environment	II.	Stock market Indices
C.	Technological environment	III.	New Methods and Techniques
D.	Legal environment	IV.	Traditions

Choose the correct answer from the options given below:

- 1. A-IV, B-III, C-II, D-I
- 2. A-II, B-IV, C-III, D-I
- 3. A-II, B-III, C-IV, D-I
- 4. A-II, B-I, C-III, D-IV

Options :

- 485584145881. 1
- 485584145882. 2
- 485584145883. 3
- 485584145884. 4

Question Number : 86 Question Id : 48558436471 Question Type : MCQ Option Shuffling : No Is Question Mandatory : No Calculator : None Response Time : N.A Think Time : N.A Minimum Instruction Time : 0

Correct Marks : 5 Wrong Marks : 1

Question Key Details :

Key	Value
Comprehension	MCQ

ചേരുംപടി ചേരുക

പട്ടിക I		പട്ടിക II	
A.	സാമ്പത്തിക പരിതസ്ഥിതി	I.	നിയമങ്ങൾ പാലാമുക്
B.	സാമൂഹിക പരിതസ്ഥിതി	II.	ഒറ്റാൽ മാർക്കറ്റ് സ്വചിക്ഷൾ
C.	സാങ്കേതിക പരിതസ്ഥിതി	III.	പുതിയ സാങ്കേതിക രീതികളും തന്ത്രങ്ങളും
D.	നിയമപരമായ പരിതസ്ഥിതി	IV.	പാർമ്പര്യം

താഴെ തന്നിട്ടുള്ളവയിൽ നിന്നും ശരിയായ ഉത്തരം തിരഞ്ഞെടുക്കുക:

1. A-IV, B-III, C-II, D-I
2. A-II, B-IV, C-III, D-I
3. A-II, B-III, C-IV, D-I
4. A-II, B-I, C-III, D-IV

Options :

- 485584145881. 1
- 485584145882. 2
- 485584145883. 3
- 485584145884. 4

Question Number : 87 Question Id : 48558436472 Question Type : MCQ Option Shuffling : No Is Question Mandatory : No Calculator : None Response Time : N.A Think Time : N.A Minimum Instruction Time : 0

Correct Marks : 5 Wrong Marks : 1

Question Key Details :

Key	Value
Comprehension	MCQ

Match List I with List II

LIST I		LIST II	
A.	Objectives	I.	General Statements
B.	Strategy	II.	Routine steps
C.	Policy	III.	Comprehensive plan
D.	Procedure	IV.	End point of planning

Choose the correct answer from the options given below:

1. A-IV, B-III, C-II, D-I
2. A-IV, B-II, C-III, D-I
3. A-IV, B-I, C-III, D-II
4. A-IV, B-III, C-I, D-II

Options :

- 485584145885. 1
- 485584145886. 2
- 485584145887. 3

Question Number : 87 Question Id : 48558436472 Question Type : MCQ Option Shuffling : No Is Question Mandatory : No Calculator : None Response Time : N.A Think Time : N.A Minimum Instruction Time : 0

Correct Marks : 5 Wrong Marks : 1

Question Key Details :

Key	Value
Comprehension	MCQ

ചേർന്നുകൊടുക്കുക

പട്ടിക I		പട്ടിക II	
A.	ലക്ഷ്യങ്ങൾ	I.	പൊതുവായ പ്രസ്താവന
B.	തന്ത്രങ്ങൾ	II.	സ്ഥിരമായ പ്രവർത്തന വഴികൾ (ബുദ്ധിമുട്ട്)
C.	നയങ്ങൾ	III.	സമഗ്രമായ നയം
D.	നടപടി ക്രമങ്ങൾ	IV.	ആസൂത്രണത്തിന്റെ അവസാന ലക്ഷ്യം

താഴെ തന്നിട്ടുള്ളവയിൽ നിന്നും ശരിയായ ഉത്തരം തിരഞ്ഞെടുക്കുക:

1. A-IV, B-III, C-II, D-I
2. A-IV, B-II, C-III, D-I
3. A-IV, B-I, C-III, D-II
4. A-IV, B-III, C-I, D-II

Options :

485584145885. 1
485584145886. 2
485584145887. 3
485584145888. 4

Question Number : 88 Question Id : 48558436473 Question Type : MCQ Option Shuffling : No Is Question Mandatory : No Calculator : None Response Time : N.A Think Time : N.A Minimum Instruction Time : 0

Correct Marks : 5 Wrong Marks : 1

Question Key Details :

Key	Value
Comprehension	MCQ

Match List I with List II

LIST I (Controlling Process)		LIST II (Related Concept)	
A.	Analysing deviations	I.	It demands managerial attention
B.	Taking corrective action	II.	It becomes easy when quantitative terms are used
C.	Comparison of standard with actuals	III.	To determine acceptable range of deviations
D.	Setting performance standards	IV.	Serves as benchmarks towards which an organization strives to work

Choose the correct answer from the options given below:

1. A-I, B-III, C-II, D-IV
2. A-III, B-I, C-II, D-IV
3. A-III, B-II, C-I, D-IV
4. A-IV, B-III, C-II, D-I

Options :

485584145889. 1

485584145890. 2
 485584145891. 3
 485584145892. 4

Question Number : 88 Question Id : 48558436473 Question Type : MCQ Option Shuffling : No Is Question Mandatory : No Calculator : None
 Response Time : N.A Think Time : N.A Minimum Instruction Time : 0

Correct Marks : 5 Wrong Marks : 1

Question Key Details :

Key	Value
Comprehension	MCQ

ചേർന്നിട്ടുള്ളവയിൽ തിരഞ്ഞെടുക്കുക

പട്ടിക I (Controlling Process)	പട്ടിക II (Related Concept)
A. വ്യതിയാനം വിശദീകരണം ചെയ്യുക	I. മാനേജ്മെന്റിന് ശ്രദ്ധ വേണം
B. തിരുത്തൽ നടപടി എടുക്കുക	II. സംബന്ധമായ നിലവാരമാണെങ്കിൽ എളുപ്പം
C. യഥാർത്ഥ പ്രകടനവും മൂൻ നിശ്ചയിച്ച പ്രകടനവും തമ്മിൽ താരതമ്യം ചെയ്യുക	III. അനുവദനീയ പരിധിയിലുള്ള വ്യതിയാനങ്ങൾ നിരീക്ഷിക്കുക
D. നിശ്ചിത നിലവാരം നിരീക്ഷിക്കുക	IV. നോട്ടീസ് നേടിയെടുക്കേണ്ട ലക്ഷ്യത്തിന്റെ അളവ് കോലായി വർത്തിക്കുന്നു

താഴെ തന്നിട്ടുള്ളവയിൽ നിന്നും ശരിയായ ഉത്തരം തിരഞ്ഞെടുക്കുക.

1. A-I, B-III, C-II, D-IV
2. A-III, B-I, C-II, D-IV
3. A-III, B-II, C-I, D-IV
4. A-IV, B-III, C-II, D-I

Options :

485584145889. 1
 485584145890. 2
 485584145891. 3
 485584145892. 4

Question Number : 89 Question Id : 48558436474 Question Type : MCQ Option Shuffling : No Is Question Mandatory : No Calculator : None
 Response Time : N.A Think Time : N.A Minimum Instruction Time : 0

Correct Marks : 5 Wrong Marks : 1

Question Key Details :

Key	Value
Comprehension	MCQ

Match List I with List II

LIST I		LIST II	
A.	Interest Coverage Ratio	I.	Rate of return
B.	Choice of Technique	II.	Fixed Capital
C.	Credit Allowed	III.	Capital structure
D.	Capital budgeting decisions	IV.	Working Capital

Choose the correct answer from the options given below:

1. A-II, B-III, C-IV, D-I
2. A-III, B-II, C-I, D-IV
3. A-III, B-II, C-IV, D-I
4. A-II, B-IV, C-III, D-I

Options :

485584145893. 1
 485584145894. 2
 485584145895. 3
 485584145896. 4

Question Number : 89 Question Id : 48558436474 Question Type : MCQ Option Shuffling : No Is Question Mandatory : No Calculator : None Response Time : N.A Think Time : N.A Minimum Instruction Time : 0

Correct Marks : 5 Wrong Marks : 1

Question Key Details :

Key	Value
Comprehension	MCQ

ചേർക്കുക ചേർക്കുക

പട്ടിക I		പട്ടിക II	
A.	പലിശ കവരേജ് അനുപാതം	I.	നിരട്ടൺ നിരക്ക്
B.	ടെക്നിക്കിന്റെ തിരഞ്ഞെടുപ്പ്	II.	സ്ഥിര മൂലധനം
C.	ക്രെഡിറ്റ് അനുവദിച്ചു	III.	ക്രെഡിറ്റ് അനുവദിച്ചു
D.	മൂലധന ബജറ്റ് തിരുമാനങ്ങൾ	IV.	മൂലധന ബജറ്റ് തിരുമാനങ്ങൾ

താഴെ തന്നിട്ടുള്ളവയിൽ നിന്നും ശരിയായ ഉത്തരം തിരഞ്ഞെടുക്കുക:

1. A-I, B-II, C-IV, D-III
2. A-III, B-IV, C-I, D-II
3. A-III, B-IV, C-I, D-II
4. A-II, B-IV, C-III, D-I

Options :

485584145893. 1
 485584145894. 2
 485584145895. 3
 485584145896. 4

Question Number : 90 Question Id : 48558436475 Question Type : MCQ Option Shuffling : No Is Question Mandatory : No Calculator : None Response Time : N.A Think Time : N.A Minimum Instruction Time : 0

Correct Marks : 5 Wrong Marks : 1

Question Key Details :

Key	Value
Comprehension	MCQ

Match List I with List II

LIST I		LIST II	
A.	Shopping Products	I.	Cigarettes, Ice cream, Medicines
B.	Speciality Products	II.	Raw materials, Engines, Lubricants
C.	Industrial Products	III.	Radio, Jewellery, Furniture
D.	Convenience Products	IV.	Salon, Restaurant, Boutique

Choose the correct answer from the options given below:

1. A-I, B-II, C-IV, D-III
2. A-III, B-I, C-II, D-IV
3. A-III, B-IV, C-II, D-I
4. A-IV, B-III, C-II, D-I

Options :

485584145897. 1
 485584145898. 2
 485584145899. 3
 485584145900. 4

Question Number : 90 Question Id : 48558436475 Question Type : MCQ Option Shuffling : No Is Question Mandatory : No Calculator : None
 Response Time : N.A Think Time : N.A Minimum Instruction Time : 0
 Correct Marks : 5 Wrong Marks : 1

Question Key Details :

Key	Value
Comprehension	MCQ

ചേർക്കുവാൻ ചേർക്കുക

പട്ടിക I		പട്ടിക II	
A.	പേഷാപ്പിറങ്ങി ഉൽപ്പന്നങ്ങൾ	I.	സിഗരറ്റ്, ഐസ്ക്രീം, മരുന്നുകൾ
B.	സവിശേഷ ഉൽപ്പന്നങ്ങൾ	II.	അസംസ്കൃത വസ്തുക്കൾ, യന്ത്രങ്ങൾ, ലൂബ്രിക്കന്റുകൾ
C.	വ്യവസായിക ഉൽപ്പന്നങ്ങൾ	III.	റേഡിയോ, ജൂവലറി, ഫർണിച്ചർ
D.	സൗകര്യപരമായ ഉൽപ്പന്നങ്ങൾ	IV.	സലൂൺ, ഹോട്ടൽ, ബോട്ടിക്ക്

താഴെ തന്നിട്ടുള്ളവയിൽ നിന്നും ശരിയായ ഉത്തരം തിരഞ്ഞെടുക്കുക:

1. A-I, B-II, C-IV, D-III
2. A-III, B-I, C-II, D-IV
3. A-III, B-IV, C-II, D-I
4. A-IV, B-III, C-II, D-I

Options :

485584145897. 1
 485584145898. 2
 485584145899. 3
 485584145900. 4

Sub-Section Number :

2

Sub-Section Id :

4855842694

Question Shuffling Allowed :

No

Is Section Default? :

null

Question Number : 91 Question Id : 48558436476 Question Type : MCQ Option Shuffling : No Is Question Mandatory : No Calculator : None Response Time : N.A Think Time : N.A Minimum Instruction Time : 0

Correct Marks : 5 Wrong Marks : 1

Question Key Details :

Key	Value
Comprehension	Comp1

Mr. Rehan has done a diploma in Financial market and its participants. Recently he got a chance to present his knowledge and train students in a school. He told students about various money market instruments. He mentioned about an instrument which is issued by R.B.I on behalf of Central Government. He told students that Banks use a system to borrow money (an instrument) to manage their CRR i.e Cash Reserve Ratio. Later, he mentioned a short term self liquidating instrument like Bills of Exchange that can be used for arranging working capital. He also told students about an instrument that helps to mobilise large amounts of money in short period by commercial banks. Lastly, Mr. Rehan spoke about an instrument that works as a replacement towards bank borrowing for large credit-worthy companies, its maturity period is 15 days to one year.

"He mentioned about an Instrument which is issued by RBI on behalf of Central Government"

Identify the Money instrument to which the above given line is related to.

1. Call money
2. Commercial Papers
3. Treasury Bills
4. Commercial Bills

Options :

- 485584145901. 1
- 485584145902. 2
- 485584145903. 3
- 485584145904. 4

Question Number : 91 Question Id : 48558436476 Question Type : MCQ Option Shuffling : No Is Question Mandatory : No Calculator : None Response Time : N.A Think Time : N.A Minimum Instruction Time : 0

Correct Marks : 5 Wrong Marks : 1

Question Key Details :

Key	Value
Comprehension	Comp1

ധനകാര്യ വിപണിയിൽ ഡിക്ലോമ രേഖിച്ച് രാജ്യം വിദേശവരുമാനങ്ങളിലെ കുതിച്ചുചാട്ടം പരിശീലനം നൽകേണ്ട വിപണിപ്രവർത്തനങ്ങളെ പറ്റി പറഞ്ഞു. RBI കേന്ദ്രസർക്കാരിനു വേണ്ടി വിതരണം ചെയ്യുന്ന പ്രമാണത്തെ പറ്റിയും, CRR ക്രമീകരിക്കുന്നതിനായി ബാങ്കുകൾ ഉപയോഗിക്കുന്ന പ്രമാണത്തെ പറ്റിയും, പ്രവർത്തനമൂലധനത്തെ ബാധിക്കുന്ന ബില്ലുകളെ കുറിച്ചും സംസാരിച്ചു. വാണിജ്യ ബാങ്കുകൾ ചെറിയ കാലാവധിക്കുള്ളിൽ വലിയ തുകകൾ സ്വരൂപിക്കാൻ ഉപയോഗിക്കുന്ന പ്രമാണത്തെ പറ്റിയും പറഞ്ഞു. വിശ്വാസ്യതയുള്ള കമ്പനികൾ 15 മുതൽ 1 വർഷത്തേക്ക് പണം സ്വരൂപിക്കാൻ ഇറക്കുന്ന പ്രമാണത്തെ പറ്റിയും രേഖപ്പെടുത്തി പറഞ്ഞു.

(41 മുതൽ 45 വരെയുള്ള ചോദ്യങ്ങൾക്ക് ഉത്തരം എഴുതുക)

നിന്നുവെച്ച് ബാങ്ക് കേന്ദ്രസർക്കാരിനു വേണ്ടി ഇറക്കുന്ന പ്രമാണം ഏതാണ് ?

1. കാൾ മണി
2. വാണിജ്യ പത്രങ്ങൾ
3. ട്രഷറി ബില്ലുകൾ
4. വാണിജ്യ ബില്ലുകൾ

Options :

- 485584145901. 1

485584145902. 2
 485584145903. 3
 485584145904. 4

Question Number : 92 Question Id : 48558436477 Question Type : MCQ Option Shuffling : No Is Question Mandatory : No Calculator : None Response Time : N.A Think Time : N.A Minimum Instruction Time : 0

Correct Marks : 5 Wrong Marks : 1

Question Key Details :

Key	Value
Comprehension	Comp1

Mr. Rehan has done a diploma in Financial market and its participants. Recently he got a chance to present his knowledge and train students in a school. He told students about various money market instruments. He mentioned about an instrument which is issued by R.B.I on behalf of Central Government. He told students that Banks use a system to borrow money (an instrument) to manage their CRR i.e Cash Reserve Ratio. Later, he mentioned a short term self liquidating instrument like Bills of Exchange that can be used for arranging working capital. He also told students about an instrument that helps to mobilise large amounts of money in short period by commercial banks. Lastly, Mr. Rehan spoke about an instrument that works as a replacement towards bank borrowing for large credit-worthy companies, its maturity period is 15 days to one year.

He told that Banks use a system to borrow money (an instrument) to manage their cash Reserve Ratio.

Which security amongst money market Instrument is mentioned here.

1. Call money
2. Commercial papers
3. Treasury bills
4. Commercial Bills

Options :

485584145905. 1
 485584145906. 2
 485584145907. 3
 485584145908. 4

Question Number : 92 Question Id : 48558436477 Question Type : MCQ Option Shuffling : No Is Question Mandatory : No Calculator : None Response Time : N.A Think Time : N.A Minimum Instruction Time : 0

Correct Marks : 5 Wrong Marks : 1

Question Key Details :

Key	Value
Comprehension	Comp1

ധനകാര്യ വിപണിയിൽ ഡിപ്ലോമ നേടിയ രാഹ്മാൻ ഒരു വിദ്യാലയത്തിലെ കുട്ടികൾക്ക് പരിശീലനം നൽകാൻ വിവേകിതയ്ക്ക് പ്രമാണത്തെ പറ്റി പഠനം. RBI ക്ലോസ്സർക്കാരിനു വേണ്ടി വിതരണം ചെയ്യുന്ന പ്രമാണത്തെ പറ്റിയും, CRR ക്രമീകരിക്കുന്നതിനായി ബാങ്കുകൾ ഉപയോഗിക്കുന്ന പ്രമാണത്തെ പറ്റിയും, പ്രവർത്തനമുലധനത്തെ ബാധിക്കുന്ന ബില്ലുകളെ കുറിച്ചും സംസാരിച്ചു. വാണിജ്യ ബാങ്കുകൾ ചെറിയ കാലാവധിക്കുള്ളിൽ വലിയ തുകകൾ സ്വരൂപിക്കാൻ ഉപയോഗിക്കുന്ന പ്രമാണത്തെ പറ്റിയും പഠനം. വിശ്വാസ്യതയുള്ള കമ്പനികൾ 15 മുതൽ 1 വർഷത്തേക്ക് പണം സ്വരൂപിക്കാൻ ഇറക്കുന്ന പ്രമാണത്തെ പറ്റിയും രാഹ്മാൻ പറഞ്ഞു.

(41 മുതൽ 45 വരെയുള്ള ചോദ്യങ്ങൾക്ക് ഉത്തരം എഴുതുക)

CRR ക്രമീകരിക്കുന്നതിനായി ബാങ്കുകൾ ഉപയോഗിക്കുന്ന പ്രമാണം ?

1. കാശ് മണി
2. വാണിജ്യ പത്രങ്ങൾ
3. ട്രഷറി ബില്ലുകൾ
4. വാണിജ്യ ബില്ലുകൾ

Options :

485584145905. 1
485584145906. 2
485584145907. 3
485584145908. 4

Question Number : 93 Question Id : 48558436478 Question Type : MCQ Option Shuffling : No Is Question Mandatory : No Calculator : None Response Time : N.A Think Time : N.A Minimum Instruction Time : 0

Correct Marks : 5 Wrong Marks : 1

Question Key Details :

Key	Value
Comprehension	Comp1

Mr. Rehan has done a diploma in Financial market and its participants. Recently he got a chance to present his knowledge and train students in a school. He told students about various money market instruments. He mentioned about an instrument which is issued by R.B.I on behalf of Central Government. He told students that Banks use a system to borrow money (an instrument) to manage their CRR i.e Cash Reserve Ratio. Later, he mentioned a short term self liquidating instrument like Bills of Exchange that can be used for arranging working capital. He also told students about an instrument that helps to mobilise large amounts of money in short period by commercial banks. Lastly, Mr. Rehan spoke about an instrument that works as a replacement towards bank borrowing for large credit-worthy companies, its maturity period is 15 days to one year.

"A short term self liquidating like Bills of Exchange than can be used for arranging working capital".

Which Money Market instrument, was Mr. Rehan referring to?

1. Call money
2. Certificate of Deposit
3. Commercial bills
4. Commercial papers

Options :

485584145909. 1
485584145910. 2
485584145911. 3
485584145912. 4

Question Number : 93 Question Id : 48558436478 Question Type : MCQ Option Shuffling : No Is Question Mandatory : No Calculator : None Response Time : N.A Think Time : N.A Minimum Instruction Time : 0

Correct Marks : 5 Wrong Marks : 1

Question Key Details :

Key	Value
Comprehension	Comp1

ധനകാര്യ വിപണിയിൽ ഡിപോസിറ്റ് രേഖാപാത്രം ഒരു വിദ്യാലയത്തിലെ കുട്ടികൾക്ക് പരിശീലനം നൽകാൻ പദ്ധതിയിടുന്ന പ്രമാണത്തെ പറ്റി പറഞ്ഞു. RBI കേന്ദ്രസർക്കാരിനു വേണ്ടി വിതരണം ചെയ്യുന്ന പ്രമാണത്തെ പറ്റിയും, CRR ക്രമീകരിക്കുന്നതിനായി ബാങ്കുകൾ ഉപയോഗിക്കുന്ന പ്രമാണത്തെ പറ്റിയും, പ്രവർത്തനമൂലധനത്തെ ബാധിക്കുന്ന ബില്ലുകളെ കുറിച്ചും സംസാരിച്ചു. വാണിജ്യ ബാങ്കുകൾ ചെയ്ത കാര്യങ്ങളിൽ വലിയ തുകകൾ സ്വരൂപിക്കാൻ ഉപയോഗിക്കുന്ന പ്രമാണത്തെ പറ്റിയും പറഞ്ഞു. വിശ്വാസ്യതയുള്ള കമ്പനികൾ 15 മുതൽ 1 വർഷത്തേക്ക് പണം സ്വരൂപിക്കാൻ ഇറക്കുന്ന പ്രമാണത്തെ പറ്റിയും രേഖാപാത്രം പറഞ്ഞു.

(41 മുതൽ 45 വരെയുള്ള ചോദ്യങ്ങൾക്ക് ഉത്തരം എഴുതുക)

പ്രവർത്തന മൂലധനം സ്വരൂപിക്കാൻ സഹായിക്കുന്ന ഹ്യൂസ്കാല ബില്ലുകൾ ഏത് ?

1. കാൾ മണി
2. നിക്ഷേപ സർട്ടിഫിക്കറ്റ്
3. വാണിജ്യ ബില്ലുകൾ
4. വാണിജ്യ പത്രങ്ങൾ

Options :

- 485584145909. 1
- 485584145910. 2
- 485584145911. 3
- 485584145912. 4

Question Number : 94 Question Id : 48558436479 Question Type : MCQ Option Shuffling : No Is Question Mandatory : No Calculator : None Response Time : N.A Think Time : N.A Minimum Instruction Time : 0

Correct Marks : 5 Wrong Marks : 1

Question Key Details :

Key	Value
Comprehension	Comp1

Mr. Rehan has done a diploma in Financial market and its participants. Recently he got a chance to present his knowledge and train students in a school. He told students about various money market instruments. He mentioned about an instrument which is issued by R.B.I on behalf of Central Government. He told students that Banks use a system to borrow money (an instrument) to manage their CRR i.e Cash Reserve Ratio. Later, he mentioned a short term self liquidating instrument like Bills of Exchange that can be used for arranging working capital. He also told students about an instrument that helps to mobilise large amounts of money in short period by commercial banks. Lastly, Mr. Rehan spoke about an instrument that works as a replacement towards bank borrowing for large credit-worthy companies, its maturity period is 15 days to one year.

"An instrument that helps to mobilise large amounts of money in short period by commercial banks".

Identify the money market instrument stated above :

1. Certificate of Deposit
2. Call money
3. Commercial bills
4. Treasury bills

Options :

- 485584145913. 1
- 485584145914. 2
- 485584145915. 3
- 485584145916. 4

Question Number : 94 Question Id : 48558436479 Question Type : MCQ Option Shuffling : No Is Question Mandatory : No Calculator : None Response Time : N.A Think Time : N.A Minimum Instruction Time : 0

Correct Marks : 5 Wrong Marks : 1

Question Key Details :

Key	Value
Comprehension	Comp1

ധനകാര്യ വിപണിയിൽ ഡിപ്ലോമ രേഖിച്ച് രാഹ്മാൻ ഒരു വിദ്യാലയത്തിലെ കുട്ടികൾക്ക് പരിശീലനം നൽകാൻ പണിയിട്ടുണ്ട്. പ്രമാണത്തെ പറ്റി പഠിച്ച്, RBI ക്ലോസ്സർക്കാരിനു വേണ്ടി വിതരണം ചെയ്യുന്ന പ്രമാണത്തെ പറ്റിയും, CRR ക്രമീകരിക്കുന്നതിനായി ബാങ്കുകൾ ഉപയോഗിക്കുന്ന പ്രമാണത്തെ പറ്റിയും, പ്രവർത്തനമുലധനത്തെ ബാധിക്കുന്ന ബില്ലുകളെ കുറിച്ചും സംസാരിച്ചു. വാണിജ്യ ബാങ്കുകൾ ചെയ്ത കാര്യങ്ങൾക്കുള്ളിൽ വലിയ തുകകൾ സ്വരൂപിക്കാൻ ഉപയോഗിക്കുന്ന പ്രമാണത്തെ പറ്റിയും പഠിച്ച്, വിശ്വാസ്യതയുള്ള കമ്പനികൾ 15 മുതൽ 1 വർഷത്തേക്ക് പണം സ്വരൂപിക്കാൻ ഇറക്കുന്ന പ്രമാണത്തെ പറ്റിയും രാഹ്മാൻ പറഞ്ഞു.

(41 മുതൽ 45 വരെയുള്ള ചോദ്യങ്ങൾക്ക് ഉത്തരം എഴുതുക)

വാണിജ്യ ബാങ്കുകൾക്ക് ഹ്യൂസ്കാലത്തേക്ക് കൊണ്ട് വലിയ തുകകൾ സ്വരൂപിക്കാൻ സഹായിക്കുന്ന പ്രമാണം ഏത് ?

1. നിക്ഷേപ സർട്ടിഫിക്കറ്റ്
2. കാശി മണി
3. വാണിജ്യ ബില്ലുകൾ
4. ട്രഷറി ബില്ലുകൾ

Options :

- 485584145913. 1
- 485584145914. 2
- 485584145915. 3
- 485584145916. 4

Question Number : 95 Question Id : 48558436480 Question Type : MCQ Option Shuffling : No Is Question Mandatory : No Calculator : None Response Time : N.A Think Time : N.A Minimum Instruction Time : 0

Correct Marks : 5 Wrong Marks : 1

Question Key Details :

Key	Value
Comprehension	Comp1

Mr. Rehan has done a diploma in Financial market and its participants. Recently he got a chance to present his knowledge and train students in a school. He told students about various money market instruments. He mentioned about an instrument which is issued by R.B.I on behalf of Central Government. He told students that Banks use a system to borrow money (an instrument) to manage their CRR i.e Cash Reserve Ratio. Later, he mentioned a short term self liquidating instrument like Bills of Exchange that can be used for arranging working capital. He also told students about an instrument that helps to mobilise large amounts of money in short period by commercial banks. Lastly, Mr. Rehan spoke about an instrument that works as a replacement towards bank borrowing for large credit-worthy companies, its maturity period is 15 days to one year.

"An instrument that works as a replacement towards bank borrowing for large Credit-worthy companies, its maturity period is 15 days to one year".

Identify the money market instrument stated in the above lines.

1. Call money
2. Commercial papers
3. Commercial bills
4. Certificate of Deposit

Options :

- 485584145917. 1
- 485584145918. 2
- 485584145919. 3
- 485584145920. 4

Question Number : 95 Question Id : 48558436480 Question Type : MCQ Option Shuffling : No Is Question Mandatory : No Calculator : None Response Time : N.A Think Time : N.A Minimum Instruction Time : 0

Correct Marks : 5 Wrong Marks : 1

Question Key Details :

Key	Value
Comprehension	Compl

ധനകാര്യ വിപണിയിൽ ഡിപ്പോസിറ്റ് ചെയ്ത തോപൻ ഒരു വിദ്യാലയത്തിലെ കുട്ടികൾക്ക് പരിശീലനം നൽകാൻ പണിപണി പ്രമാണങ്ങളെ പറ്റി പഠനം. RBI കേന്ദ്രസർക്കാരിനു വേണ്ടി വിതരണം ചെയ്യുന്ന പ്രമാണത്തെ പറ്റിയും, CFS ക്രമീകരിക്കുന്നതിനായി ബാങ്കുകൾ ഉപയോഗിക്കുന്ന പ്രമാണത്തെ പറ്റിയും, പ്രവർത്തനമുലധനത്തെ ബാധിക്കുന്ന ബില്ലുകളെ കുറിച്ചും സംസാരിച്ചു. വാണിജ്യ ബാങ്കുകൾ ചെയ്ത കാര്യങ്ങളിൽ വലിയ തുകകൾ സ്വരൂപിക്കാൻ ഉപയോഗിക്കുന്ന പ്രമാണത്തെ പറ്റിയും പഠനം, വിശ്വാസ്യതയുള്ള കമ്പനികൾ 15 മുതൽ 1 വർഷത്തേക്ക് പണം സ്വരൂപിക്കാൻ ഇറക്കുന്ന പ്രമാണത്തെ പറ്റിയും തോപൻ പഠനം.

(41 മുതൽ 45 വരെയുള്ള ചോദ്യങ്ങൾക്ക് ഉത്തരം എഴുതുക)

"ഒരു നിശ്ചിത കാലാവധിക്കുള്ളതും (15 ദിവസം മുതൽ 1 വർഷം വരെ) ഇറക്ക് ഇല്ലാത്തതുമായ, ഉയർന്ന വായ്പാശേഷിയുള്ള വൻകിട കമ്പനികൾ പ്രാസക്തമായ ആവശ്യങ്ങൾക്കായി ഇറക്കുന്ന പ്രമാണം ഏത് ?

1. കാശി മണി
2. വാണിജ്യ പത്രങ്ങൾ
3. വാണിജ്യ ബില്ലുകൾ
4. നിക്ഷേപ സർട്ടിഫിക്കറ്റ്

Options :

- 485584145917. 1
- 485584145918. 2
- 485584145919. 3
- 485584145920. 4

Sub-Section Number : 3
 Sub-Section Id : 4855842695
 Question Shuffling Allowed : No
 Is Section Default? : null

Question Number : 96 Question Id : 48558436481 Question Type : MCQ Option Shuffling : No Is Question Mandatory : No Calculator : None Response Time : N.A Think Time : N.A Minimum Instruction Time : 0

Correct Marks : 5 Wrong Marks : 1

Question Key Details :

Key	Value
Comprehension	Comp2

Safex Ltd is a company manufacturing masks. The newly appointed marketing manager of the firm has taken 'Covid Pandemic' as an opportunity to increase sales. He used a combination of tools to achieve its communication objective. He constituted 4 teams for designing these tools.

Team 1 :- The tool used by them was an impersonal form of communication which was paid for.

Team 2 :- The tool used by them involves oral presentation of message in the form of conversation with one or more prospective customers for the purpose of making sales

Team 3 :- This team used short-term incentives which were designed to encourage the buyers to make immediate purchase.

Team 4 :- This team used a non-personal form of communication which was non-paid.

All the teams successfully designed their tools and achieved their desired results.

The variable of marketing mix discussed in the above case is _____

1. Product mix
2. Place mix
3. Price mix
4. Promotion mix

Options :

- 485584145921. 1
- 485584145922. 2
- 485584145923. 3
- 485584145924. 4

Question Number : 96 Question Id : 48558436481 Question Type : MCQ Option Shuffling : No Is Question Mandatory : No Calculator : None Response Time : N.A Think Time : N.A Minimum Instruction Time : 0

Correct Marks : 5 Wrong Marks : 1

Question Key Details :

Key	Value
Comprehension	Comp2

മുതൽ വരെയുള്ള ചോദ്യങ്ങൾക്ക് ഖണ്ഡിക വായിച്ച് ഉത്തരം എഴുതുക.

സഫക്സ് ലിമിറ്റഡ്. മാസ്ക് നിർമ്മിക്കുന്ന ഒരു കമ്പനി ആണ്. പുതിയതായി വന്ന മാന്റേജർ കോവിഡ് അമ്പവനം നല്ലൊരു വില്പന സാധ്യതാ സമയമായി കാണുകയും, ആശയവിനിമയത്തിനായി 4 ടീമുകളെ സൃഷ്ടിക്കുകയും അവർക്ക് 4 തരം ആശയവിനിമയ രീതികൾ പറഞ്ഞു കൊടുക്കുകയും ചെയ്തു.

ടീം 1 :- വ്യക്തിയേതര ആശയവിനിമയ രൂപം, പണമടച്ച് മേടി എടുക്കാവുന്നതാണ്.

ടീം 2 :- തങ്ങളുടെ മുന്നിലുള്ള ഉപഭോക്താക്കളുമായി സംഭാഷണത്തിലൂടെ വാചികമായി സന്ദേശങ്ങൾ കൈമാറി വില്പന നടത്തുക.

ടീം 3 :- ഉൽപ്പന്നം വാങ്ങുന്നതിനായി അധികമായ പ്രോത്സാഹനങ്ങൾ നൽകുക.

ടീം 4 :- പണച്ചെലവില്ലാത്ത വ്യക്തിയേതര സംഭാഷണ രീതി.

ഏത് വിപണനമിശ്രിതത്തെ കുറിച്ചാണ് ഖണ്ഡകയിൽ പ്രതിപാദിച്ചിട്ടുള്ളത്.

1. ഉൽപ്പന്ന മിശ്രിതം
2. സ്ഥല മിശ്രിതം
3. വില മിശ്രിതം
4. വില്പന പ്രോത്സാഹന മിശ്രിതം

Options :

485584145921. 1
485584145922. 2
485584145923. 3
485584145924. 4

Question Number : 97 Question Id : 48558436482 Question Type : MCQ Option Shuffling : No Is Question Mandatory : No Calculator : None Response Time : N.A Think Time : N.A Minimum Instruction Time : 0

Correct Marks : 5 Wrong Marks : 1

Question Key Details :

Key	Value
Comprehension	Comp2

Safex Ltd is a company manufacturing masks. The newly appointed marketing manager of the firm has taken 'Covid Pandemic' as an opportunity to increase sales. He used a combination of tools to achieve its communication objective. He constituted 4 teams for designing these tools.

Team 1 :- The tool used by them was an impersonal form of communication which was paid for.

Team 2:- The tool used by them involves oral presentation of message in the form of conversation with one or more prospective customers for the purpose of making sales

Team 3:- This team used short-term incentives which were designed to encourage the buyers to make immediate purchase.

Team 4:- This team used a non-personal form of communication which was non-paid.

All the teams successfully designed their tools and achieved their desired results.

The tool used by Team 3 was _____

1. Public relations
2. Sales promotion
3. Publicity
4. Branding

Options :

485584145925. 1
485584145926. 2
485584145927. 3
485584145928. 4

Question Number : 97 Question Id : 48558436482 Question Type : MCQ Option Shuffling : No Is Question Mandatory : No Calculator : None Response Time : N.A Think Time : N.A Minimum Instruction Time : 0

Correct Marks : 5 Wrong Marks : 1

Question Key Details :

Key	Value
Comprehension	Comp2

മുതൽ വരെയുള്ള ചോദ്യങ്ങൾക്ക് ഖണ്ഡിക വായിച്ച് ഉത്തരം എഴുതുക.

സഫക്സ് ലിമിറ്റഡ് മാസ്ക് നിർമ്മിക്കുന്ന ഒരു കമ്പനി ആണ്. പുതിയതായി വന്ന മാനേജർ കോവിഡ് അവസ്ഥ നല്ലൊരു വില്പന സാധ്യതാ സമയമായി കാണുകയും, ആശയവിനിമയത്തിനായി 4 ടീമുകളെ സൃഷ്ടിക്കുകയും അവർക്ക് 4 തരം ആശയവിനിമയ രീതികൾ പറഞ്ഞു കൊടുക്കുകയും ചെയ്തു.

ടീം 1 :- വ്യക്തിയേതര ആശയവിനിമയ രൂപം, പണമടച്ച് മേടി എടുക്കാവുന്നതാണ്.

ടീം 2 :- തങ്ങളുടെ മുന്നിലുള്ള ഉപഭോക്താക്കളുമായി സംഭാഷണത്തിലൂടെ വാചികമായി സന്ദേശങ്ങൾ കൈമാറി വില്പന നടത്തുക.

ടീം 3 :- ഉൽപന്നം വാങ്ങുന്നതിനായി അധികമായ പ്രോത്സാഹനങ്ങൾ നൽകുക.

ടീം 4 :- പണച്ചെലവില്ലാത്ത വ്യക്തിയേതര സംഭാഷണ രീതി.

ടീം 3 ഉപയോഗിച്ചത് ഏത് തരം രീതിയാണ് ?

- 1. പൊതുജന സമ്പർക്കം
- 2. വില്പന പ്രോത്സാഹനം
- 3. പ്രചരണം
- 4. ബ്രാൻ്റിംഗ്

Options :

- 485584145925. 1
- 485584145926. 2
- 485584145927. 3
- 485584145928. 4

Question Number : 98 Question Id : 48558436483 Question Type : MCQ Option Shuffling : No Is Question Mandatory : No Calculator : None Response Time : N.A Think Time : N.A Minimum Instruction Time : 0

Correct Marks : 5 Wrong Marks : 1

Question Key Details :

Key	Value
Comprehension	Comp2

Safex Ltd is a company manufacturing masks. The newly appointed marketing manager of the firm has taken 'Covid Pandemic' as an opportunity to increase sales. He used a combination of tools to achieve its communication objective. He constituted 4 teams for designing these tools.

Team 1 :- The tool used by them was an impersonal form of communication which was paid for.

Team 2:- The tool used by them involves oral presentation of message in the form of conversation with one or more prospective customers for the purpose of making sales

Team 3:- This team used short-term incentives which were designed to encourage the buyers to make immediate purchase.

Team 4:- This team used a non-personal form of communication which was non-paid.

All the teams successfully designed their tools and achieved their desired results.

The tool used by Team 4 is _____

- 1. Packaging
- 2. Advertising
- 3. Publicity
- 4. Sales promotion

Options :

- 485584145929. 1
- 485584145930. 2
- 485584145931. 3
- 485584145932. 4

Question Number : 98 Question Id : 48558436483 Question Type : MCQ Option Shuffling : No Is Question Mandatory : No Calculator : None Response Time : N.A Think Time : N.A Minimum Instruction Time : 0

Correct Marks : 5 Wrong Marks : 1

Question Key Details :

Key	Value
Comprehension	Comp2

മുതൽ വരെയുള്ള ചോദ്യങ്ങൾക്ക് ഖണ്ഡിക വായിച്ച് ഉത്തരം എഴുതുക.

സഫൽ ലിമിറ്റഡ്, മാസ് നിർമ്മിക്കുന്ന ഒരു കമ്പനി ആണ്. പുതിയതായി വന്ന മാനേജർ കോവിഡ് അവസ്ഥ നേരിട്ടു വില്ലന സ്വാധ്യതാ സമയമായി കാണുകയും, ആശയവിനിമയത്തിനായി 4 ടീമുകളെ സൃഷ്ടിക്കുകയും അവർക്ക് 4 തരം ആശയവിനിമയ രീതികൾ പറഞ്ഞു കൊടുക്കുകയും ചെയ്തു.

ടീം 1 :- വ്യക്തിയേതര ആശയവിനിമയ രൂപം, പണമടച്ച് നേടി എടുക്കാവുന്നതാണ്.

ടീം 2 :- തങ്ങളുടെ മുന്നിലുള്ള ഉപഭോക്താക്കളുമായി സംഭാഷണത്തിലൂടെ വാചികമായി സന്ദേശങ്ങൾ കൈമാറി വില്ലന നടത്തുക.

ടീം 3 :- ഉൽപ്പന്നം വാങ്ങുന്നതിനായി അധികമായ പ്രോത്സാഹനങ്ങൾ നൽകുക.

ടീം 4 :- പണച്ചെലവില്ലാത്ത വ്യക്തിയേതര സംഭാഷണ രീതി.

ടീം 4 ഉപയോഗിച്ച രീതി ഏത് ?

- 1. പാർട്ടിസിപ്പേഷൻ
- 2. പരസ്യം ചെയ്യൽ
- 3. പ്രചരണം
- 4. വില്ലന പ്രോത്സാഹനം

Options :

- 485584145929. 1
- 485584145930. 2
- 485584145931. 3
- 485584145932. 4

Question Number : 99 Question Id : 48558436484 Question Type : MCQ Option Shuffling : No Is Question Mandatory : No Calculator : None Response Time : N.A Think Time : N.A Minimum Instruction Time : 0

Correct Marks : 5 Wrong Marks : 1

Question Key Details :

Key	Value
Comprehension	Comp2

Safex Ltd is a company manufacturing masks. The newly appointed marketing manager of the firm has taken 'Covid Pandemic' as an opportunity to increase sales. He used a combination of tools to achieve its communication objective. He constituted 4 teams for designing these tools.

Team 1 :- The tool used by them was an impersonal form of communication which was paid for.

Team 2:- The tool used by them involves oral presentation of message in the form of conversation with one or more prospective customers for the purpose of making sales

Team 3:- This team used short-term incentives which were designed to encourage the buyers to make immediate purchase.

Team 4:- This team used a non-personal form of communication which was non-paid.

All the teams successfully designed their tools and achieved their desired results.

The tool used by Team 1 is _____

1. Advertising
2. Public relations
3. Publicity
4. Personal selling

Options :

- 485584145933. 1
- 485584145934. 2
- 485584145935. 3
- 485584145936. 4

Question Number : 99 Question Id : 48558436484 Question Type : MCQ Option Shuffling : No Is Question Mandatory : No Calculator : None Response Time : N.A Think Time : N.A Minimum Instruction Time : 0

Correct Marks : 5 Wrong Marks : 1

Question Key Details :

Key	Value
Comprehension	Comp2

മുതൽ വരെയുള്ള ചോദ്യങ്ങൾക്ക് ഖണ്ഡിക വായിച്ച് ഉത്തരം എഴുതുക.

സഫക്സ് ലിമിറ്റഡ്. മാസ്ക് നിർമ്മിക്കുന്ന ഒരു കമ്പനി ആണ്. പുതിയതായി വന്ന മാനേജർ കോവിഡ് അമ്പന്മാനല്ലെങ്കിലും വില്പന സാധ്യതാ സമയമായി കാണുകയും ആശയവിനിമയത്തിനായി 4 ടീമുകളെ സൃഷ്ടിക്കുകയും അവർക്ക് 4 തരം ആശയവിനിമയ രീതികൾ പറഞ്ഞു കൊടുക്കുകയും ചെയ്തു.

ടീം 1 :- വ്യക്തിയേതര ആശയവിനിമയ രൂപം, പണമടച്ച് നേടി എടുക്കാവുന്നതാണ്.

ടീം 2 :- തങ്ങളുടെ മുന്നിലുള്ള ഉപഭോക്താക്കളുമായി സംഭാഷണത്തിലൂടെ വാചികമായി സന്ദേശങ്ങൾ കൈമാറി വില്പന നടത്തുക.

ടീം 3 :- ഉൽപ്പന്നം വാങ്ങുന്നതിനായി അധികമായ പ്രോത്സാഹനങ്ങൾ നൽകുക.

ടീം 4 :- പണച്ചെലവില്ലാത്ത വ്യക്തിയേതര സംഭാഷണ രീതി.

ടീം 1 ഉപയോഗിച്ച രീതി ഏത് ?

1. പരസ്യം ചെയ്യൽ
2. പൊതുജന സമ്പർക്കം
3. പ്രചരണം
4. വ്യക്തിഗത വില്പന

Options :

485584145933. 1
 485584145934. 2
 485584145935. 3
 485584145936. 4

Question Number : 100 Question Id : 48558436485 Question Type : MCQ Option Shuffling : No Is Question Mandatory : No Calculator : None Response Time : N.A Think Time : N.A Minimum Instruction Time : 0

Correct Marks : 5 Wrong Marks : 1

Question Key Details :

Key	Value
Comprehension	Comp2

Safex Ltd is a company manufacturing masks. The newly appointed marketing manager of the firm has taken 'Covid Pandemic' as an opportunity to increase sales. He used a combination of tools to achieve its communication objective. He constituted 4 teams for designing these tools.

Team 1 :- The tool used by them was an impersonal form of communication which was paid for.

Team 2:- The tool used by them involves oral presentation of message in the form of conversation with one or more prospective customers for the purpose of making sales

Team 3:- This team used short-term incentives which were designed to encourage the buyers to make immediate purchase.

Team 4:- This team used a non-personal form of communication which was non-paid.

All the teams successfully designed their tools and achieved their desired results.

The tool used by Team 2 is _____

1. Public relations
2. Personal selling
3. Advertising
4. Publicity

Options :

485584145937. 1
 485584145938. 2
 485584145939. 3
 485584145940. 4

Question Number : 100 Question Id : 48558436485 Question Type : MCQ Option Shuffling : No Is Question Mandatory : No Calculator : None Response Time : N.A Think Time : N.A Minimum Instruction Time : 0

Correct Marks : 5 Wrong Marks : 1

Question Key Details :

Key	Value
Comprehension	Comp2

മുതൽ വരെയുള്ള ചോദ്യങ്ങൾക്ക് ഖണ്ഡിക വായിച്ച് ഉത്തരം എഴുതുക.

സഹകൃ ലിമിറ്റഡ്. മാസ് നീർമ്മിക്കുന്ന ഒരു കമ്പനി ആണ്. പുതിയതായി വന്ന മാനേജർ കോവിഡ് അവസ്ഥ നല്ലൊരു വില്ലന സ്വാധ്യതാ സമയമായി കാണുകയും ആശയവിനിമയത്തിനായി 4 ടീമുകളെ സൃഷ്ടിക്കുകയും അവർക്ക് 4 തരം ആശയവിനിമയ രീതികൾ പറഞ്ഞു കൊടുക്കുകയും ചെയ്തു.

ടീം 1 :- വ്യക്തിയേതര ആശയവിനിമയ രൂപം പണമടച്ച് മേടി എടുക്കാവുന്നതാണ്.

ടീം 2 :- തങ്ങളുടെ മുന്നിലുള്ള ഉപഭോക്താക്കളുമായി സംഭാഷണത്തിലൂടെ വാചികമായി സന്ദേശങ്ങൾ കൈമാറി വില്ലന നടത്തുക.

ടീം 3 :- ഉൽപ്പന്നം വാങ്ങുന്നതിനായി അധികമായ പ്രോത്സാഹനങ്ങൾ നൽകുക.

ടീം 4 :- പണച്ചെലവില്ലാത്ത വ്യക്തിയേതര സംഭാഷണ രീതി.

ടീം 2 അനുവർത്തിച്ച രീതി ഏത് ?

- 1. പൊതുജന സമ്പർക്കം
- 2. വ്യക്തിഗത വില്ലന
- 3. പരസ്യം ചെയ്യാൽ
- 4. പ്രചരണം

Options :

- 485584145937. 1
- 485584145938. 2
- 485584145939. 3
- 485584145940. 4

History

Group Number :	4
Group Id :	485584824
Group Maximum Duration :	45
Group Minimum Duration :	45
Show Attended Group? :	No
Edit Attended Group? :	No
Break time :	0
Group Marks :	200
Is this Group for Examiner? :	No
Examiner permission :	Cant View
Show Progress Bar? :	No

History

Section Id :	485584948
Section Number :	1
Section type :	Online
Mandatory or Optional :	Mandatory
Number of Questions :	50
Number of Questions to be attempted :	40
Section Marks :	200
Enable Mark as Answered Mark for Review and Clear Response :	Yes
Maximum Instruction Time :	0
Sub-Section Number :	1
Sub-Section Id :	4855842696
Question Shuffling Allowed :	Yes
Is Section Default? :	null

Question Number : 101 Question Id : 48558436486 Question Type : MCQ Option Shuffling : No Is Question Mandatory : No Calculator : None Response Time : N.A Think Time : N.A Minimum Instruction Time : 0

Correct Marks : 5 Wrong Marks : 1

Question Key Details :

Key	Value
Comprehension	MCQ

Who made the following statement: "Marshall left India three thousand years older than he had found her."

1. Daya Ram Sahni
2. Rakhial Das Banerji
3. R.E. M. Wheeler
4. S.N. Roy

Options :

- 485584145941. 1
- 485584145942. 2
- 485584145943. 3
- 485584145944. 4

Question Number : 101 Question Id : 48558436486 Question Type : MCQ Option Shuffling : No Is Question Mandatory : No Calculator : None Response Time : N.A Think Time : N.A Minimum Instruction Time : 0

Correct Marks : 5 Wrong Marks : 1

Question Key Details :

Key	Value
Comprehension	MCQ

ആരാണ് താഴെ പറഞ്ഞ പ്രസ്താവന നടത്തിയത്

"ഇന്ത്യയെ അയാൾ കണ്ടെത്തിയതിനേക്കാൾ മൂവായിരം വർഷം പിന്നിലേക്കൊക്കിയാണ് മാർഷൽ ഇന്ത്യ വിട്ടത്."

1. ടയാ റാം സാഹ്നി
2. രാഖൽ ദാസ് ബാനർജി
3. ആർ.ഇ.എം വീലർ
4. എസ്.എൻ.റോയ്

Options :

- 485584145941. 1
- 485584145942. 2
- 485584145943. 3
- 485584145944. 4

Question Number : 102 Question Id : 48558436487 Question Type : MCQ Option Shuffling : No Is Question Mandatory : No Calculator : None Response Time : N.A Think Time : N.A Minimum Instruction Time : 0

Correct Marks : 5 Wrong Marks : 1

Question Key Details :

Key	Value
Comprehension	MCQ

Archaeological study of a mound can provide cultural sequence for a site. Study of such layers is called _____.

1. Ethnography
2. Stratigraphy
3. Epigraphy
4. Sociography

Options :

- 485584145945. 1
- 485584145946. 2
- 485584145947. 3
- 485584145948. 4

Question Number : 102 Question Id : 48558436487 Question Type : MCQ Option Shuffling : No Is Question Mandatory : No Calculator : None Response Time : N.A Think Time : N.A Minimum Instruction Time : 0

Correct Marks : 5 Wrong Marks : 1

Question Key Details :

Key	Value
Comprehension	MCQ

പുരാവസ്തു പഠനത്തിൽ, കുന്നുകളെ കൂറിച്ചുളള പഠനത്തിന് പറയുന്ന പേര്

1. എൽനോഗ്രാഫി
2. സ്ട്രാറ്റിഗ്രാഫി
3. എപ്പിഗ്രാഫി
4. സോഷിയോഗ്രാഫി

Options :

- 485584145945. 1
- 485584145946. 2
- 485584145947. 3
- 485584145948. 4

Question Number : 103 Question Id : 48558436488 Question Type : MCQ Option Shuffling : No Is Question Mandatory : No Calculator : None Response Time : N.A Think Time : N.A Minimum Instruction Time : 0

Correct Marks : 5 Wrong Marks : 1

Question Key Details :

Key	Value
Comprehension	MCQ

Which of the following Harappan sites were located near the coast?

1. Banawali and Rakhigarhi
2. Nageshwar and Balakot
3. Ganweriwala and Mitathal
4. Kot-Diji and Kalibangan

Options :

- 485584145949. 1
- 485584145950. 2
- 485584145951. 3
- 485584145952. 4

Question Number : 103 Question Id : 48558436488 Question Type : MCQ Option Shuffling : No Is Question Mandatory : No Calculator : None Response Time : N.A Think Time : N.A Minimum Instruction Time : 0

Correct Marks : 5 Wrong Marks : 1

Question Key Details :

Key	Value
Comprehension	MCQ

തീരത്തോടു ചേർന്ന് ഉള്ള ഹാരപ്പൻ സ്ഥലം?

1. ബനാവലിയും രാവിഗർഹിയും
2. നാഗേശ്വരി, ബാലാകോട്ട്
3. ഗൻഭവനിവാലയും മിത്തതാലും
4. കോട്ട് ഡിജിയും കാലിബംഗണും

Options :

- 485584145949. 1
- 485584145950. 2
- 485584145951. 3
- 485584145952. 4

Question Number : 104 Question Id : 48558436489 Question Type : MCQ Option Shuffling : No Is Question Mandatory : No Calculator : None Response Time : N.A Think Time : N.A Minimum Instruction Time : 0

Correct Marks : 5 Wrong Marks : 1

Question Key Details :

Key	Value
Comprehension	MCQ

Who among the following is often held as the 'Father of Indian Archaeology'?

1. John Marshall
2. Alexander Cunningham
3. James Prinsep
4. R.E.M. Wheeler

Options :

- 485584145953. 1
- 485584145954. 2
- 485584145955. 3
- 485584145956. 4

Question Number : 104 Question Id : 48558436489 Question Type : MCQ Option Shuffling : No Is Question Mandatory : No Calculator : None Response Time : N.A Think Time : N.A Minimum Instruction Time : 0

Correct Marks : 5 Wrong Marks : 1

Question Key Details :

Key	Value
Comprehension	MCQ

ഇന്ത്യൻ പുരാവസ്തു ശാസ്ത്രത്തിന്റെ പിതാവായി അറിയപ്പെടുന്നത് ആരാണ് ?

1. ജോൺ മാർഷൽ
2. അലക്സാണ്ടർ കണ്ണിംഗ്ഹാം
3. ജയിംസ് പ്രിൻസെപ്
4. ആർ.ഇ.എം. വീലർ

Options :

485584145953. 1
485584145954. 2
485584145955. 3
485584145956. 4

Question Number : 105 Question Id : 48558436490 Question Type : MCQ Option Shuffling : No Is Question Mandatory : No Calculator : None Response Time : N.A Think Time : N.A Minimum Instruction Time : 0

Correct Marks : 5 Wrong Marks : 1

Question Key Details :

Key	Value
Comprehension	MCQ

Traces of canals have been found at the Harappan site of Shortughai, which is located in _____.

1. Punjab
2. Sind
3. Afghanistan
4. Gujarat

Options :

485584145957. 1
485584145958. 2
485584145959. 3
485584145960. 4

Question Number : 105 Question Id : 48558436490 Question Type : MCQ Option Shuffling : No Is Question Mandatory : No Calculator : None Response Time : N.A Think Time : N.A Minimum Instruction Time : 0

Correct Marks : 5 Wrong Marks : 1

Question Key Details :

Key	Value
Comprehension	MCQ

ഹാരപ്പൻ തടത്തിൽ, കനാലുകളുടെ അവശേഷിപ്പുകൾ കണ്ടെത്തിയ ഷോർട്ടുഗായ് എന്ന സ്ഥലം എവിടെയാണ് സ്ഥിതി ചെയ്യുന്നത്.

1. പഞ്ചാബ്
2. സിന്ദ്
3. അഫ്ഘാനിസ്ഥാൻ
4. ഗുജറാത്ത്

Options :

485584145957. 1
485584145958. 2
485584145959. 3
485584145960. 4

Question Number : 106 Question Id : 48558436491 Question Type : MCQ Option Shuffling : No Is Question Mandatory : No Calculator : None Response Time : N.A Think Time : N.A Minimum Instruction Time : 0

Correct Marks : 5 Wrong Marks : 1

Question Key Details :

Key	Value
Comprehension	MCQ

In ancient India, the first coins to bear the names and images of the rulers were issued by the _____.

1. Indo-Greeks
2. Kushans
3. Parthians
4. Shakas

Options :

- 485584145961. 1
- 485584145962. 2
- 485584145963. 3
- 485584145964. 4

Question Number : 106 Question Id : 48558436491 Question Type : MCQ Option Shuffling : No Is Question Mandatory : No Calculator : None Response Time : N.A Think Time : N.A Minimum Instruction Time : 0

Correct Marks : 5 Wrong Marks : 1

Question Key Details :

Key	Value
Comprehension	MCQ

പുരാതന ഇന്ത്യയിൽ ആദ്യമായി ഭരണാധികാരിയുടെ ചിത്രവും പേരും വെച്ച് നാണയമിറക്കിയത് _____ ആണ്.

1. ഇന്തോ-ഗ്രീക്ക്
2. കുശാനന്മാർ
3. പാർതിയന്മാർ
4. ശകന്മാർ

Options :

- 485584145961. 1
- 485584145962. 2
- 485584145963. 3
- 485584145964. 4

Question Number : 107 Question Id : 48558436492 Question Type : MCQ Option Shuffling : No Is Question Mandatory : No Calculator : None Response Time : N.A Think Time : N.A Minimum Instruction Time : 0

Correct Marks : 5 Wrong Marks : 1

Question Key Details :

Key	Value
Comprehension	MCQ

Which place are you visiting if you come across the lion capital built by Asoka?

1. Varanasi
2. Delhi
3. Sarnath
4. Ujjayini

Options :

- 485584145965. 1
- 485584145966. 2
- 485584145967. 3
- 485584145968. 4

Question Number : 107 Question Id : 48558436492 Question Type : MCQ Option Shuffling : No Is Question Mandatory : No Calculator : None Response Time : N.A Think Time : N.A Minimum Instruction Time : 0

Correct Marks : 5 Wrong Marks : 1

Question Key Details :

Key	Value
Comprehension	MCQ

അശോകൻ പണികഴിപ്പിച്ച ലയൺ ക്യാപ്പിറ്റൽ കാണണമെങ്കിൽ നിങ്ങൾ ഏത് സ്ഥലം സന്ദർശിക്കണം?

1. വാരണാസി
2. ഡൽഹി
3. സാരനാഥ്
4. ഉജ്ജയിനി

Options :

- 485584145965. 1
- 485584145966. 2
- 485584145967. 3
- 485584145968. 4

Question Number : 108 Question Id : 48558436493 Question Type : MCQ Option Shuffling : No Is Question Mandatory : No Calculator : None Response Time : N.A Think Time : N.A Minimum Instruction Time : 0

Correct Marks : 5 Wrong Marks : 1

Question Key Details :

Key	Value
Comprehension	MCQ

Prabhavati Gupta was the daughter of _____.

1. Chandragupta II
2. Samudragupta
3. Chandragupta Maurya
4. Skandgupta

Options :

- 485584145969. 1
- 485584145970. 2
- 485584145971. 3
- 485584145972. 4

Question Number : 108 Question Id : 48558436493 Question Type : MCQ Option Shuffling : No Is Question Mandatory : No Calculator : None Response Time : N.A Think Time : N.A Minimum Instruction Time : 0

Correct Marks : 5 Wrong Marks : 1

Question Key Details :

Key	Value
Comprehension	MCQ

പ്രഭാവതി ഗൃഹ ആരുടെ മകളാണ് :

1. ചന്ദ്രഗുപ്ത II
2. സമുദ്രഗുപ്ത
3. ചന്ദ്രഗുപ്ത മെന്ദര്യ
4. സ്തംഭഗുപ്ത

Options :

485584145969. 1
485584145970. 2
485584145971. 3
485584145972. 4

Question Number : 109 Question Id : 48558436494 Question Type : MCQ Option Shuffling : No Is Question Mandatory : No Calculator : None Response Time : N.A Think Time : N.A Minimum Instruction Time : 0

Correct Marks : 5 Wrong Marks : 1

Question Key Details :

Key	Value
Comprehension	MCQ

Which of the following statements are correct?

- A. The Dharmasutras and Dharmashastras recognised as many as twelve forms of marriages.
- B. People were classified into gotras and each gotra was named after a Vedic seer.
- C. Jatis, which shared a common occupation, were sometimes organised into shrenis or guilds.
- D. Women were allowed to retain the gifts they received on their marriage as 'Stridhana' to be inherited by their children.
- E. Matriliney is the term used when descent is traced through the mother.

Choose the correct answer from the options given below:

1. A, B, C, E only
2. A, C, D, E only
3. B, C, D, E only
4. A, B, D, E only

Options :

485584145973. 1
485584145974. 2
485584145975. 3
485584145976. 4

Question Number : 109 Question Id : 48558436494 Question Type : MCQ Option Shuffling : No Is Question Mandatory : No Calculator : None Response Time : N.A Think Time : N.A Minimum Instruction Time : 0

Correct Marks : 5 Wrong Marks : 1

Question Key Details :

Key	Value
Comprehension	MCQ

താഴെ തന്നതിൽ ശരിയായ പ്രസ്താവന

- A. ധർമ്മസൂത്രം, ധർമ്മശാസ്ത്രം എന്നിവയിൽ 12 തരം വിവാഹങ്ങളെ പറ്റി പ്രതിപാദിക്കുന്നു.
- B. ആളുകളെ ഗോത്രങ്ങളായി തിരിച്ചിരിന്നു. ഓരോ ഗോത്രവും ഏതെങ്കിലും ഒരു വേദ ദാർശിനികയ്ക്ക് പേരാണ് സ്വീകരിച്ചിരുന്നത് .
- C. പൊതു സ്വഭാവമുള്ള തൊഴിലുകളിൽ ഏർപ്പെടുന്ന ജാതികളെ ശ്രേണികൾ അഥവാ ഗിർജകൾ ആയി തിരിച്ചിരുന്നു.
- D. സ്ത്രീകൾക്ക് കല്യാണ സമയത്ത് സമ്മാനമായി കിട്ടുന്ന സ്ത്രീധനമെന്ന സമ്പത്ത് സൂക്ഷിക്കാനും അടുത്ത തലമുറക്ക് കൈമാറാനും അവർക്ക് അവകാശം ഉണ്ടായിരുന്നു.
- E. അമ്മവഴി അധികാര തുടർച്ച വരുന്നതിനെ മാട്രിലിനി എന്ന് വിളിക്കുന്നു.

ശരിയായത് താഴെത്തെ പട്ടികയിൽ നിന്ന് തിരഞ്ഞെടുക്കുക

- 1. A, B, C, E മാത്രം
- 2. A, C, D, E മാത്രം
- 3. B, C, D, E മാത്രം
- 4. A, B, D, E മാത്രം

Options :

- 485584145973. 1
- 485584145974. 2
- 485584145975. 3
- 485584145976. 4

Question Number : 110 Question Id : 48558436495 Question Type : MCQ Option Shuffling : No Is Question Mandatory : No Calculator : None Response Time : N.A Think Time : N.A Minimum Instruction Time : 0

Correct Marks : 5 Wrong Marks : 1

Question Key Details :

Key	Value
Comprehension	MCQ

What did Ibn Battuta observe when he visited the city of Delhi?

- A. Its beautiful temple architecture in every part of the city.
- B. Its fine cemetery with domes and arches.
- C. Its imposing stupa in the heart of the city.
- D. Its twenty-eight big darwazas.
- E. Its many waterfalls within the city.

Choose the correct answer from the options given below:

- 1. A, B only
- 2. C, D only
- 3. B, D only
- 4. D, E only

Options :

- 485584145977. 1
- 485584145978. 2
- 485584145979. 3
- 485584145980. 4

Question Number : 110 Question Id : 48558436495 Question Type : MCQ Option Shuffling : No Is Question Mandatory : No Calculator : None Response Time : N.A Think Time : N.A Minimum Instruction Time : 0

Correct Marks : 5 Wrong Marks : 1

Question Key Details :

Key	Value
Comprehension	MCQ

ഇബ്ൻ ബത്തൂത്ത ഡൽഹി സന്ദർശിച്ചപ്പോൾ കണ്ടതെന്തെല്ലാം?

- A. നഗരത്തിന്റെ എല്ലാ ഭാഗത്തും മനോഹരമായ ക്ഷേത്രശില്പകല
- B. മകുടങ്ങളോടും കമാനങ്ങളോടും കൂടിയ ശൂശാനങ്ങൾ
- C. നഗരവ്യവസ്ഥയിൽ സ്ഥാപിക്കപ്പെട്ട സ്ഥൂപങ്ങൾ
- D. 28 വലിയ വാതിലുകൾ
- E. നഗരത്തിനുള്ളിലെ നിരവധി വെള്ളച്ചാട്ടങ്ങൾ

ശരിയായത് താഴെത്തെ പട്ടികയിൽ നിന്ന് തിരഞ്ഞെടുത്ത് എഴുതുക

- 1. A and B only
- 2. C and D only
- 3. B and D only
- 4. D and E only

Options :

- 485584145977. 1
- 485584145978. 2
- 485584145979. 3
- 485584145980. 4

Question Number : 111 Question Id : 48558436496 Question Type : MCQ Option Shuffling : No Is Question Mandatory : No Calculator : None Response Time : N.A Think Time : N.A Minimum Instruction Time : 0

Correct Marks : 5 Wrong Marks : 1

Question Key Details :

Key	Value
Comprehension	MCQ

Match List I with List II:

LIST I (Traders)		LIST II (Countries)	
A.	Niccolo de Conti	I.	England
B.	Duarte Barbosa	II.	Italy
C.	Peter Mundy	III.	Russia
D.	Afanasi Nikitin	IV.	Portugal

Choose the correct answer from the options given below:

- 1. A-II, B-I, C-III, D-IV
- 2. A-II, B-III, C-IV, D-I
- 3. A-IV, B-III, C-II, D-I
- 4. A-II, B-IV, C-I, D-III

Options :

- 485584145981. 1
- 485584145982. 2
- 485584145983. 3
- 485584145984. 4

Question Number : 111 Question Id : 48558436496 Question Type : MCQ Option Shuffling : No Is Question Mandatory : No Calculator : None Response Time : N.A Think Time : N.A Minimum Instruction Time : 0

Correct Marks : 5 Wrong Marks : 1

Question Key Details :

Key	Value
-----	-------

ചേർന്നുപടി ചേർക്കുക

പട്ടിക I കച്ചവടക്കാർ	പട്ടിക II രാജ്യങ്ങൾ
A. നിക്കോളൊ ഡി കോണ്ടി	I. ഇംഗ്ലണ്ട്
B. ഡുവർട്ടെ ബർബോസ്	II. ഇറ്റലി
C. പീറ്റർ മൺഡെ	III. റഷ്യ
D. അഹാനാസി നിക്കിതിൻ	IV. പോർച്ചുഗൽ

ശരിയായത് തിരഞ്ഞെടുത്ത് എഴുതുക

1. A-II, B-I, C-III, D-IV
2. A-II, B-III, C-IV, D-I
3. A-IV, B-III, C-II, D-I
4. A-II, B-IV, C-I, D-III

Options :

- 485584145981. 1
- 485584145982. 2
- 485584145983. 3
- 485584145984. 4

Question Number : 112 Question Id : 48558436497 Question Type : MCQ Option Shuffling : No Is Question Mandatory : No Calculator : None Response Time : N.A Think Time : N.A Minimum Instruction Time : 0

Correct Marks : 5 Wrong Marks : 1

Question Key Details :

Key	Value
Comprehension	MCQ

Match List I with List II:

LIST I	LIST II
A. Alvares	I. Bjak
B. Virashaiva	II. Tevaram
C. Nayanas	III. Nalavira Divyasebandham.
D. Kabir	IV. Vachanas

Choose the correct answer from the options given below:

1. A-I, B-IV, C-III, D-II
2. A-III, B-IV, C-II, D-I
3. A-II, B-I, C-III, D-IV
4. A-IV, B-III, C-I, D-II

Options :

- 485584145985. 1
- 485584145986. 2
- 485584145987. 3
- 485584145988. 4

Question Number : 112 Question Id : 48558436497 Question Type : MCQ Option Shuffling : No Is Question Mandatory : No Calculator : None Response Time : N.A Think Time : N.A Minimum Instruction Time : 0

Correct Marks : 5 Wrong Marks : 1

Question Key Details :

Key	Value
Comprehension	MCQ

ചേർത്തുപടി ചേർക്കുക

പട്ടിക I		പട്ടിക II	
A.	ആശ്വാർത്ഥൻ	I.	ബിജാക്
B.	വീരഭൈരവ	II.	ഭക്തവാദം
C.	നായനാർത്ഥൻ	III.	നാലയിര ദിവ്യപ്രബന്ധം
D.	കബീർ	IV.	വചനാസ്

ശരിയായത് തിരഞ്ഞെടുക്കുക

1. A-I, B-IV, C-III, D-II
2. A-III, B-IV, C-II, D-I
3. A-II, B-I, C-III, D-IV
4. A-IV, B-III, C-I, D-II

Options :

485584145985. 1
485584145986. 2
485584145987. 3
485584145988. 4

Question Number : 113 Question Id : 48558436498 Question Type : MCQ Option Shuffling : No Is Question Mandatory : No Calculator : None Response Time : N.A Think Time : N.A Minimum Instruction Time : 0

Correct Marks : 5 Wrong Marks : 1

Question Key Details :

Key	Value
Comprehension	MCQ

Match List I with List II:

LIST I (Sufi Teachers)		LIST II (Year of Death)	
A.	Mausuddin Sajzi	I.	1265
B.	Fariduddin Gami-i-Shakar	II.	1235
C.	Nizamuddin Auliya	III.	1356
D.	Nasiruddin Chirag	IV.	1325

Choose the correct answer from the options given below:

1. A-II, B-III, C-I, D-IV
2. A-I, B-II, C-III, D-IV
3. A-II, B-I, C-IV, D-III
4. A-IV, B-III, C-I, D-II

Options :

485584145989. 1
485584145990. 2
485584145991. 3
485584145992. 4

Question Number : 113 Question Id : 48558436498 Question Type : MCQ Option Shuffling : No Is Question Mandatory : No Calculator : None Response Time : N.A Think Time : N.A Minimum Instruction Time : 0

Correct Marks : 5 Wrong Marks : 1

Question Key Details :

Key	Value
Comprehension	MCQ

ചോദ്യംപടി ചോദ്യങ്ങൾ

LIST I (സൂഫി പണ്ഡിതർ)		LIST II (ചരമ വർഷം)	
A.	മുയിനുദ്ധീൻ സഞ്ചാൻ	I.	1265
B.	ഫിരിയൂദ്ദീൻ ഗാനി ഹൈ സക്കർ	II.	1235
C.	നീസാമുദ്ദീൻ ഔലിയ	III.	1356
D.	തസിറുദ്ദീൻ ചിരൾ	IV.	1325

ശരിയായത് തിരഞ്ഞെടുക്കുക

1. A-II, B-III, C-I, D-IV
2. A-I, B-II, C-III, D-IV
3. A-II, B-I, C-IV, D-III
4. A-IV, B-III, C-I, D-II

Options :

- 485584145989. 1
- 485584145990. 2
- 485584145991. 3
- 485584145992. 4

Question Number : 114 Question Id : 48558436499 Question Type : MCQ Option Shuffling : No Is Question Mandatory : No Calculator : None Response Time : N.A Think Time : N.A Minimum Instruction Time : 0

Correct Marks : 5 Wrong Marks : 1

Question Key Details :

Key	Value
Comprehension	MCQ

Choose the **incorrect** statement out of the following:

1. Guru Nanak rejected the sacrifices and rituals of both Hindus and Muslims.
2. Guru Nanak did not wish to establish his own new religion.
3. Guru Nanak advocated the form of Nirguna Bhakti.
4. Guru Nanak appointed one his disciple 'Angad' to succeed him as the perceptor.

Options :

- 485584145993. 1
- 485584145994. 2
- 485584145995. 3
- 485584145996. 4

Question Number : 114 Question Id : 48558436499 Question Type : MCQ Option Shuffling : No Is Question Mandatory : No Calculator : None Response Time : N.A Think Time : N.A Minimum Instruction Time : 0

Correct Marks : 5 Wrong Marks : 1

Question Key Details :

Key	Value
Comprehension	MCQ

താഴെ തന്നതിൽ തെറ്റായത് കണ്ടെത്തുക:

1. ഗുരു നാനാക് ഹിന്ദുക്കളുടെയും മുസ്ലിംകളുടെയും ബലികളും അനുഷ്ഠാനങ്ങളും തള്ളിക്കളഞ്ഞു.
2. ഗുരു നാനാക് തന്റെതായ ഒരു പുതിയ മതം ഉണ്ടാക്കാൻ ആഗ്രഹിച്ചിരുന്നില്ല
3. ഗുരു നാനാക് നിരീശ്വരഭക്തിയുടെ പ്രചാരകനായി
4. ഗുരു നാനാക് തന്റെ അനുയായി ആയ അൻഗാഡിനെ പിൻതുടർച്ചക്കാരനായി നിയമിച്ചു.

Options :

- 485584145993. 1
- 485584145994. 2
- 485584145995. 3
- 485584145996. 4

Question Number : 115 Question Id : 48558436500 Question Type : MCQ Option Shuffling : No Is Question Mandatory : No Calculator : None Response Time : N.A Think Time : N.A Minimum Instruction Time : 0

Correct Marks : 5 Wrong Marks : 1

Question Key Details :

Key	Value
Comprehension	MCQ

Chronologically arrange the landmark events in the discovery of Vijayanagara.

- A. Conservation under John Marshall.
- B. Documentation of temple inscriptions by J.F. Fleet.
- C. Survey of Vijayanagara by Colin Mackenzie.
- D. Status of world heritage site by UNESCO.
- E. Photography of the archaeological site under Alexander Greenlaw.

Choose the correct answer from the options given below:

1. C, E, B, A, D
2. B, D, A, E, C
3. C, D, A, B, E
4. E, A, C, D, B

Options :

- 485584145997. 1
- 485584145998. 2
- 485584145999. 3
- 485584146000. 4

Question Number : 115 Question Id : 48558436500 Question Type : MCQ Option Shuffling : No Is Question Mandatory : No Calculator : None Response Time : N.A Think Time : N.A Minimum Instruction Time : 0

Correct Marks : 5 Wrong Marks : 1

Question Key Details :

Key	Value
Comprehension	MCQ

വിജയനഗരവുമായി ബന്ധപ്പെട്ട് നടന്ന പ്രധാനപ്പെട്ട കണ്ടെത്തലുകളെ കാലഗണന പ്രകാരം ചിട്ടപ്പെടുത്തുക .

- A. ജോൺ മാർഷലിന്റെ നേതൃത്വത്തിലുള്ള സംരക്ഷണ പ്രവർത്തനങ്ങൾ
- B. ജെ.എഫ്. ഷീറ്റിന്റെ നേതൃത്വത്തിൽ ക്ഷേത്ര ലിഖിതങ്ങളുടെ രേഖപ്പെടുത്തൽ
- C. കോളിൻ മക്കൻസി നടത്തിയ വിജയനഗര സർവ്വേ
- D. UNESCO യുടെ ലോകപൈതൃക പട്ടികയിൽ സ്ഥാനം
- E. അലക്സാണ്ടർ ഗ്രീൻലോയുടെ നേതൃത്വത്തിൽ പുരാവസ്തു മേഖലയുടെ ഫോട്ടോഗ്രഫി

ശരിയായത് പട്ടികയിൽ നിന്ന് തിരഞ്ഞെടുക്കുക

- 1. C, E, B, A, D
- 2. B, D, A, E, C
- 3. C, D, A, B, E
- 4. E, A, C, D, B

Options :

- 485584145997. 1
- 485584145998. 2
- 485584145999. 3
- 485584146000. 4

Question Number : 116 Question Id : 48558436501 Question Type : MCQ Option Shuffling : No Is Question Mandatory : No Calculator : None Response Time : N.A Think Time : N.A Minimum Instruction Time : 0

Correct Marks : 5 Wrong Marks : 1

Question Key Details :

Key	Value
Comprehension	MCQ

Arrange the following dynasties in a chronological order.

- A. Tuluva dynasty
- B. Saluva dynasty
- C. Aravida dynasty
- D. Sangama dynasty

Choose the correct answer from the options given below:

- 1. A, B, C, D
- 2. A, B, D, C
- 3. C, D, A, B
- 4. D, B, A, C

Options :

- 485584146001. 1
- 485584146002. 2
- 485584146003. 3
- 485584146004. 4

Question Number : 116 Question Id : 48558436501 Question Type : MCQ Option Shuffling : No Is Question Mandatory : No Calculator : None Response Time : N.A Think Time : N.A Minimum Instruction Time : 0

Correct Marks : 5 Wrong Marks : 1

Question Key Details :

Key	Value
Comprehension	MCQ

രാജപരമ്പരകളെ കാലഗണന അനുസരിച്ച് ക്രമീകരിക്കുക

- A. തുളുവ രാജപരമ്പര
- B. ശാലൂവ രാജപരമ്പര
- C. അരവിഡു രാജപരമ്പര
- D. സംഗമ രാജപരമ്പര

ശരിയായത് പട്ടികയിൽ നിന്ന് തിരഞ്ഞെടുക്കുക

- 1. A, B, C, D
- 2. A, B, D, C
- 3. C, D, A, B
- 4. D, B, A, C

Options :

- 485584146001. 1
- 485584146002. 2
- 485584146003. 3
- 485584146004. 4

Question Number : 117 Question Id : 48558436502 Question Type : MCQ Option Shuffling : No Is Question Mandatory : No Calculator : None Response Time : N.A Think Time : N.A Minimum Instruction Time : 0

Correct Marks : 5 Wrong Marks : 1

Question Key Details :

Key	Value
Comprehension	MCQ

What is a 'Gopuram' in the context of Vijayanagara Empire?

- 1. Mandapa
- 2. Platform
- 3. Shrine
- 4. Gateway

Options :

- 485584146005. 1
- 485584146006. 2
- 485584146007. 3
- 485584146008. 4

Question Number : 117 Question Id : 48558436502 Question Type : MCQ Option Shuffling : No Is Question Mandatory : No Calculator : None Response Time : N.A Think Time : N.A Minimum Instruction Time : 0

Correct Marks : 5 Wrong Marks : 1

Question Key Details :

Key	Value
Comprehension	MCQ

വിജയനഗര സാമ്രാജ്യത്തിന്റെ പശ്ചാത്തലത്തിൽ ഏതാണ് ഗോപുരം?

- 1. മണ്ഡപ
- 2. പ്ലാറ്റ് ഫോം
- 3. ശൈലി
- 4. ഗേറ്റ് വെ

Options :

- 485584146005. 1
- 485584146006. 2
- 485584146007. 3
- 485584146008. 4

Question Number : 118 Question Id : 48558436503 Question Type : MCQ Option Shuffling : No Is Question Mandatory : No Calculator : None Response Time : N.A Think Time : N.A Minimum Instruction Time : 0

Correct Marks : 5 Wrong Marks : 1

Question Key Details :

Key	Value
Comprehension	MCQ

Vijayanagara kings claimed to rule on behalf of the God _____.

- 1. Pampadevi
- 2. Virupaksha
- 3. Vitthala
- 4. Rama

Options :

- 485584146009. 1
- 485584146010. 2
- 485584146011. 3
- 485584146012. 4

Question Number : 118 Question Id : 48558436503 Question Type : MCQ Option Shuffling : No Is Question Mandatory : No Calculator : None Response Time : N.A Think Time : N.A Minimum Instruction Time : 0

Correct Marks : 5 Wrong Marks : 1

Question Key Details :

Key	Value
Comprehension	MCQ

വിജയനഗര രാജാക്കന്മാർ ഏത് ദൈവത്തിന്റെ പേരിലാണ് രാജ്യം ഭരിച്ചിരുന്നത് ?

- 1. പമ്പാ ദേവി
- 2. വീരൂപക്ഷ
- 3. വിത്താല
- 4. രാമ

Options :

- 485584146009. 1
- 485584146010. 2
- 485584146011. 3
- 485584146012. 4

Question Number : 119 Question Id : 48558436504 Question Type : MCQ Option Shuffling : No Is Question Mandatory : No Calculator : None Response Time : N.A Think Time : N.A Minimum Instruction Time : 0

Correct Marks : 5 Wrong Marks : 1

Question Key Details :

Key	Value
Comprehension	MCQ

The Vijayanagara Empire was known to its contemporaries as _____.

1. Maharashtra Samrajyamu
2. Andhra Samrajyamu
3. Tamil Samrajyamu
4. Karnataka Samrajyamu

Options :

- 485584146013. 1
- 485584146014. 2
- 485584146015. 3
- 485584146016. 4

Question Number : 119 Question Id : 48558436504 Question Type : MCQ Option Shuffling : No Is Question Mandatory : No Calculator : None Response Time : N.A Think Time : N.A Minimum Instruction Time : 0

Correct Marks : 5 Wrong Marks : 1

Question Key Details :

Key	Value
Comprehension	MCQ

വിജയനഗര സാമ്രാജ്യം അതിന്റെ സമകാലികർക്കിടയിൽ അറിയപ്പെട്ടത് ?

1. മഹാരാഷ്ട്ര സമ്രാജ്യമു
2. ആന്ധ്ര സമ്രാജ്യമു
3. തമിഴ് സമ്രാജ്യമു
4. കർണാടക സമ്രാജ്യമു

Options :

- 485584146013. 1
- 485584146014. 2
- 485584146015. 3
- 485584146016. 4

Question Number : 120 Question Id : 48558436505 Question Type : MCQ Option Shuffling : No Is Question Mandatory : No Calculator : None Response Time : N.A Think Time : N.A Minimum Instruction Time : 0

Correct Marks : 5 Wrong Marks : 1

Question Key Details :

Key	Value
Comprehension	MCQ

In the 17th century, Indo-Persian sources, the term for non-resident cultivators, who belonged to some other village but cultivated land elsewhere on contractual basis, were known as _____.

1. Khud-Kashta
2. Pahi-Kashta
3. Muqaddam
4. Muzarian

Options :

- 485584146017. 1
- 485584146018. 2
- 485584146019. 3
- 485584146020. 4

Question Number : 120 Question Id : 48558436505 Question Type : MCQ Option Shuffling : No Is Question Mandatory : No Calculator : None Response Time : N.A Think Time : N.A Minimum Instruction Time : 0

Correct Marks : 5 Wrong Marks : 1

Question Key Details :

Key	Value
Comprehension	MCQ

പതിനേഴാം നൂറ്റാണ്ടിലെ പേർഷ്യൻ ഉപഭാഗ പ്രകാരം, സ്വന്തം ഗ്രാമത്തിലല്ലാതെ, ഉടമ്പടി പ്രകാരം മറ്റ് സ്ഥലങ്ങളിൽ കുഴി ചെയ്തിരുന്ന കർഷകൻ അറിയപ്പെട്ടിരുന്നത് :

1. ഖുദ് കസ്ബിക
2. പാപി കസ്ബിക
3. മുക്വദാ
4. മുസ്നിയൻ

Options :

- 485584146017. 1
- 485584146018. 2
- 485584146019. 3
- 485584146020. 4

Question Number : 121 Question Id : 48558436506 Question Type : MCQ Option Shuffling : No Is Question Mandatory : No Calculator : None Response Time : N.A Think Time : N.A Minimum Instruction Time : 0

Correct Marks : 5 Wrong Marks : 1

Question Key Details :

Key	Value
Comprehension	MCQ

Identify the correct sequence of the chronicles written during the Mughal period.

- A. Akbar Nama
- B. Alamgir Nama
- C. Char Chaman
- D. Jahangir Nama
- E. Humayun Nama

Choose the correct answer from the options given below:

1. A, C, B, D, E
2. A, D, B, C, E
3. E, A, B, D, C
4. E, A, D, C, B

Options :

- 485584146021. 1
- 485584146022. 2
- 485584146023. 3
- 485584146024. 4

Question Number : 121 Question Id : 48558436506 Question Type : MCQ Option Shuffling : No Is Question Mandatory : No Calculator : None Response Time : N.A Think Time : N.A Minimum Instruction Time : 0

Correct Marks : 5 Wrong Marks : 1

Question Key Details :

Key	Value
Comprehension	MCQ

മുഗൾ കാലഘട്ടത്തിൽ എഴുതപ്പെട്ട അക്രമിക്കിളികളെ കാലഘട്ടമനുസരിച്ച് ക്രമീകരിക്കുക

- A. അക്ബർ നാമ
- B. ആലൻഗീർ നാമ
- C. ചർ ചമൻ
- D. ജഹാംഗീർ നാമ
- E. ഹുമയൂൺ നാമ

ശരിയായത് തിരഞ്ഞെടുക്കുക

- 1. A, C, B, D, E
- 2. A, D, B, C, E
- 3. E, A, B, D, C
- 4. E, A, D, C, B

Options :

- 485584146021. 1
- 485584146022. 2
- 485584146023. 3
- 485584146024. 4

Question Number : 122 Question Id : 48558436507 Question Type : MCQ Option Shuffling : No Is Question Mandatory : No Calculator : None Response Time : N.A Think Time : N.A Minimum Instruction Time : 0

Correct Marks : 5 Wrong Marks : 1

Question Key Details :

Key	Value
Comprehension	MCQ

Which minister looked after the finances in the Mughal Empire?

- 1. Sadr-us-Sadar
- 2. Diwan-i-Ala
- 3. Mir Bakshi
- 4. Mir Saman

Options :

- 485584146025. 1
- 485584146026. 2
- 485584146027. 3
- 485584146028. 4

Question Number : 122 Question Id : 48558436507 Question Type : MCQ Option Shuffling : No Is Question Mandatory : No Calculator : None Response Time : N.A Think Time : N.A Minimum Instruction Time : 0

Correct Marks : 5 Wrong Marks : 1

Question Key Details :

Key	Value
Comprehension	MCQ

മുഗൾ കാലഘട്ടത്തിലെ ധനകാര്യ മന്ത്രി അറിയപ്പെട്ടിരുന്നത്?

- 1. സദർ ഉസ് സദർ
- 2. ദിവാൻ ഇ അല
- 3. മീർ ബക്ഷി
- 4. മീർ സമാൻ

Options :

- 485584146025. 1
- 485584146026. 2
- 485584146027. 3
- 485584146028. 4

Question Number : 123 Question Id : 48558436508 Question Type : MCQ Option Shuffling : No Is Question Mandatory : No Calculator : None Response Time : N.A Think Time : N.A Minimum Instruction Time : 0

Correct Marks : 5 Wrong Marks : 1

Question Key Details :

Key	Value
Comprehension	MCQ

Whom did Akbar honour with the title 'Zarrin qalam'?

- 1. Muhammad Husayn
- 2. Abul Hasan
- 3. Payag
- 4. Abdul Hamid Lahori

Options :

- 485584146029. 1
- 485584146030. 2
- 485584146031. 3
- 485584146032. 4

Question Number : 123 Question Id : 48558436508 Question Type : MCQ Option Shuffling : No Is Question Mandatory : No Calculator : None Response Time : N.A Think Time : N.A Minimum Instruction Time : 0

Correct Marks : 5 Wrong Marks : 1

Question Key Details :

Key	Value
Comprehension	MCQ

'സറിൻ കൂലാം' എന്ന നാമദേയം നൽകിക്കൊണ്ട് അക്ബർ ആരെയാണ് ആദരിച്ചത് ?

- 1. മുഹമ്മദ് ഹുസായൻ
- 2. അബൂൾ ഹസൻ
- 3. പയാഗ്
- 4. അബൂൾ ഹമീദ് ലാഹോറി

Options :

- 485584146029. 1
- 485584146030. 2
- 485584146031. 3
- 485584146032. 4

Question Number : 124 Question Id : 48558436509 Question Type : MCQ Option Shuffling : No Is Question Mandatory : No Calculator : None Response Time : N.A Think Time : N.A Minimum Instruction Time : 0

Correct Marks : 5 Wrong Marks : 1

Question Key Details :

Key	Value
Comprehension	MCQ

The Permanent Settlement came into operation in _____.

1. 1864

2. 1757

3. 1793

4. 1800

Options :

485584146033. 1

485584146034. 2

485584146035. 3

485584146036. 4

Question Number : 124 Question Id : 48558436509 Question Type : MCQ Option Shuffling : No Is Question Mandatory : No Calculator : None Response Time : N.A Think Time : N.A Minimum Instruction Time : 0

Correct Marks : 5 Wrong Marks : 1

Question Key Details :

Key	Value
Comprehension	MCQ

പെർമനന്റ് സെറ്റിൽമെന്റ് നിലവിൽ വന്ന വർഷം

1. 1864

2. 1757

3. 1793

4. 1800

Options :

485584146033. 1

485584146034. 2

485584146035. 3

485584146036. 4

Question Number : 125 Question Id : 48558436510 Question Type : MCQ Option Shuffling : No Is Question Mandatory : No Calculator : None Response Time : N.A Think Time : N.A Minimum Instruction Time : 0

Correct Marks : 5 Wrong Marks : 1

Question Key Details :

Key	Value
Comprehension	MCQ

The Manchester Cotton Company was formed in the year _____.

1. 1857

2. 1858

3. 1859

4. 1860

Options :

485584146037. 1

485584146038. 2
485584146039. 3
485584146040. 4

Question Number : 125 Question Id : 48558436510 Question Type : MCQ Option Shuffling : No Is Question Mandatory : No Calculator : None
Response Time : N.A Think Time : N.A Minimum Instruction Time : 0

Correct Marks : 5 Wrong Marks : 1

Question Key Details :

Key	Value
Comprehension	MCQ

മാഞ്ചസ്റ്റർ കോട്ടൻ കമ്പനി രൂപീകൃതമായ വർഷം _____.

1. 1857
2. 1858
3. 1859
4. 1860

Options :

485584146037. 1
485584146038. 2
485584146039. 3
485584146040. 4

Question Number : 126 Question Id : 48558436511 Question Type : MCQ Option Shuffling : No Is Question Mandatory : No Calculator : None
Response Time : N.A Think Time : N.A Minimum Instruction Time : 0

Correct Marks : 5 Wrong Marks : 1

Question Key Details :

Key	Value
Comprehension	MCQ

Before the age of railway, the town of Mirzapur was a collection centre for cotton from which area?

1. Punjab
2. Tamil Nadu
3. Gujarat
4. Deccan

Options :

485584146041. 1
485584146042. 2
485584146043. 3
485584146044. 4

Question Number : 126 Question Id : 48558436511 Question Type : MCQ Option Shuffling : No Is Question Mandatory : No Calculator : None
Response Time : N.A Think Time : N.A Minimum Instruction Time : 0

Correct Marks : 5 Wrong Marks : 1

Question Key Details :

Key	Value
Comprehension	MCQ

റെയിൽവെയുടെ സ്ഥാപനത്തിന് മുൻപ് മിൻസാപുർ എന്നത് ഏത് പ്രദേശത്തു നിന്നുള്ള കോട്ടൻ ശേഖരണത്തിന്റെ കേന്ദ്രം ആയിരുന്നു?

1. പഞ്ചാബ്
2. തമിഴ് നാട്
3. ഗുജറാത്ത്
4. ഡക്കാൻ

Options :

- 485584146041. 1
- 485584146042. 2
- 485584146043. 3
- 485584146044. 4

Question Number : 127 Question Id : 48558436512 Question Type : MCQ Option Shuffling : No Is Question Mandatory : No Calculator : None Response Time : N.A Think Time : N.A Minimum Instruction Time : 0

Correct Marks : 5 Wrong Marks : 1

Question Key Details :

Key	Value
Comprehension	MCQ

Satyajit Ray's film 'Jalshaghar' dealt with the subject matter of _____

1. India's freedom struggle.
2. The decline of the aristocratic zamindari style of living.
3. Revolt of 1857.
4. Swadeshi Movement in Bengal.

Options :

- 485584146045. 1
- 485584146046. 2
- 485584146047. 3
- 485584146048. 4

Question Number : 127 Question Id : 48558436512 Question Type : MCQ Option Shuffling : No Is Question Mandatory : No Calculator : None Response Time : N.A Think Time : N.A Minimum Instruction Time : 0

Correct Marks : 5 Wrong Marks : 1

Question Key Details :

Key	Value
Comprehension	MCQ

സത്യജിത് റേയുടെ ജർഷാഗർ എന്ന സിനിമ ഏത് വിഷയവുമായി ബന്ധപ്പെട്ടതാണ്:

1. ഇന്ത്യൻ സ്വാതന്ത്രസമരം
2. സമീൻദാരി സമ്പ്രദായത്തിന്റെ തകർച്ചയുമായി ബന്ധപ്പെട്ട്
3. 1857 റിവോൾട്ടുമായി ബന്ധപ്പെട്ട്
4. ബംഗാളിലെ സ്വദേശി പ്രസ്ഥാനവുമായി ബന്ധപ്പെട്ട്

Options :

- 485584146045. 1
- 485584146046. 2
- 485584146047. 3

485584146048. 4

Question Number : 128 Question Id : 48558436513 Question Type : MCQ Option Shuffling : No Is Question Mandatory : No Calculator : None
Response Time : N.A Think Time : N.A Minimum Instruction Time : 0
Correct Marks : 5 Wrong Marks : 1

Question Key Details :

Key	Value
Comprehension	MCQ

Who organised the zoo which later on became the Calcutta Alipore Zoo?

1. Francis Buchanan
2. Augustus Cornwallis
3. Charles Cornwallis
4. Maharaja Mehtab Chand

Options :

- 485584146049. 1
- 485584146050. 2
- 485584146051. 3
- 485584146052. 4

Question Number : 128 Question Id : 48558436513 Question Type : MCQ Option Shuffling : No Is Question Mandatory : No Calculator : None
Response Time : N.A Think Time : N.A Minimum Instruction Time : 0
Correct Marks : 5 Wrong Marks : 1

Question Key Details :

Key	Value
Comprehension	MCQ

കൽകട്ട അലിപൂർ മൃഗശാല എന്ന പ്രശസ്തമായ മൃഗശാല സ്ഥാപിച്ചത് ആര് ?

1. ഫ്രാൻസിസ് ബുക്നാന
2. അഗസ്റ്റസ് കോൺവാലിസ്
3. ചാൾസ് കോൺവാലിസ്
4. മഹാരാജാ മെഹതാബ് ചാൻ

Options :

- 485584146049. 1
- 485584146050. 2
- 485584146051. 3
- 485584146052. 4

Question Number : 129 Question Id : 48558436514 Question Type : MCQ Option Shuffling : No Is Question Mandatory : No Calculator : None
Response Time : N.A Think Time : N.A Minimum Instruction Time : 0
Correct Marks : 5 Wrong Marks : 1

Question Key Details :

Key	Value
Comprehension	MCQ

Where is 'Borah Bazaar' located?

1. Madras
2. Bombay
3. Lucknow
4. Shimla

Options :

485584146053. 1
485584146054. 2
485584146055. 3
485584146056. 4

Question Number : 129 Question Id : 48558436514 Question Type : MCQ Option Shuffling : No Is Question Mandatory : No Calculator : None Response Time : N.A Think Time : N.A Minimum Instruction Time : 0

Correct Marks : 5 Wrong Marks : 1

Question Key Details :

Key	Value
Comprehension	MCQ

എറവിടെയാണ് ബോറാ ബസാർ സ്ഥിതി ചെയ്യുന്നത്?

1. മദ്രാസ്
2. ബോംബെ
3. ലക്നൗ
4. ശിമല

Options :

485584146053. 1
485584146054. 2
485584146055. 3
485584146056. 4

Question Number : 130 Question Id : 48558436515 Question Type : MCQ Option Shuffling : No Is Question Mandatory : No Calculator : None Response Time : N.A Think Time : N.A Minimum Instruction Time : 0

Correct Marks : 5 Wrong Marks : 1

Question Key Details :

Key	Value
Comprehension	MCQ

Name the historian who remarked that South Africa was "the making of Mahatma".

1. Lala Lajpat Rai
2. Bal Gangadhar Tilak
3. Chandran Devanesan
4. Abinóranath Tagore

Options :

485584146057. 1
485584146058. 2
485584146059. 3
485584146060. 4

Question Number : 130 Question Id : 48558436515 Question Type : MCQ Option Shuffling : No Is Question Mandatory : No Calculator : None

Response Time : N.A Think Time : N.A Minimum Instruction Time : 0

Correct Marks : 5 Wrong Marks : 1

Question Key Details :

Key	Value
Comprehension	MCQ

മെജിംഗ് ഓഫ് മഹാത്മ - സൗതർ ആഫ്രിക്കയാണ് എന്ന് പറഞ്ഞ ചരിത്രകാരൻ ആരാണ്?

1. ലാലാ ലജ്പത് നായ്
2. ബാല ഗംഗാധര തിലക്
3. ചന്ദ്രൻ ദേവനേശൻ
4. അബിനവനാഥ് ടാഗോർ

Options :

- 485584146057. 1
- 485584146058. 2
- 485584146059. 3
- 485584146060. 4

Question Number : 131 Question Id : 48558436516 Question Type : MCQ Option Shuffling : No Is Question Mandatory : No Calculator : None

Response Time : N.A Think Time : N.A Minimum Instruction Time : 0

Correct Marks : 5 Wrong Marks : 1

Question Key Details :

Key	Value
Comprehension	MCQ

Who from among the following nationalist leaders belonged to the group of Moderates?

1. Bipin Chandra Pal
2. Bal Gangadhar Tilak
3. Gopal Krishna Gokhale
4. Chandrasekhar Azad

Options :

- 485584146061. 1
- 485584146062. 2
- 485584146063. 3
- 485584146064. 4

Question Number : 131 Question Id : 48558436516 Question Type : MCQ Option Shuffling : No Is Question Mandatory : No Calculator : None

Response Time : N.A Think Time : N.A Minimum Instruction Time : 0

Correct Marks : 5 Wrong Marks : 1

Question Key Details :

Key	Value
Comprehension	MCQ

മിതവാദി ഗ്രൂപ്പിലെ ദേശീയ നേതാക്കൾ താഴെ തന്നിരിക്കുന്നവരിൽ ആരെല്ലാം?

1. ബിപിൻ ചന്ദ്രപാൽ
2. ബാൽ ഗംഗാധര തിലക്
3. ഗോപാല കൃഷ്ണ ഗോഖലെ
4. ചന്ദ്രശേഖർ ആസാദ്

Options :

485584146061. 1
485584146062. 2
485584146063. 3
485584146064. 4

Question Number : 132 Question Id : 48558436517 Question Type : MCQ Option Shuffling : No Is Question Mandatory : No Calculator : None
Response Time : N.A Think Time : N.A Minimum Instruction Time : 0

Correct Marks : 5 Wrong Marks : 1

Question Key Details :

Key	Value
Comprehension	MCQ

Who amongst the following were close associates of Gandhi in the years 1917-1922?

- A. Vallabhbhai Patel
- B. Subhas Chandra Bose
- C. Annie Besant
- D. Govind Ballabh Pant
- E. B.R. Ambedkar

Choose the correct answer from the options given below:

- 1. A, C, E only
- 2. A, B, E only
- 3. B, D, C only
- 4. A, B, D only

Options :

485584146065. 1
485584146066. 2
485584146067. 3
485584146068. 4

Question Number : 132 Question Id : 48558436517 Question Type : MCQ Option Shuffling : No Is Question Mandatory : No Calculator : None
Response Time : N.A Think Time : N.A Minimum Instruction Time : 0

Correct Marks : 5 Wrong Marks : 1

Question Key Details :

Key	Value
Comprehension	MCQ

1917-1922 കാലത്ത് ഗാന്ധിയുമായി അടുത്ത ബന്ധം പുലർത്തിയിരുന്നവർ ആരെല്ലാം?

- A. വല്ലഭായി പട്ടേൽ
- B. സുഭാഷ് ചന്ദ്ര ബോസ്
- C. ആനി ബസന്റ്
- D. ഗോവിന്ദ് ബല്ലാഭ് പന്ത്
- E. ബി.ആർ. അംബേദ്കർ

ശരിയായത് തിരഞ്ഞെടുക്കുക

- 1. A, C, E മാത്രം
- 2. A, B, E മാത്രം
- 3. B, D, C മാത്രം
- 4. A, B, D മാത്രം

Options :

485584146065. 1

485584146066. 2
485584146067. 3
485584146068. 4

Question Number : 133 Question Id : 48558436518 Question Type : MCQ Option Shuffling : No Is Question Mandatory : No Calculator : None Response Time : N.A Think Time : N.A Minimum Instruction Time : 0

Correct Marks : 5 Wrong Marks : 1

Question Key Details :

Key	Value
Comprehension	MCQ

Match List I with List II:

LIST I	LIST II
A. Dandi March	I. 1917
B. Khilafat Movement	II. 1942
C. Quit India Movement	III. 1921
D. Champaran Movement	IV. 1930

Choose the correct answer from the options given below:

1. A-I, B-II, C-III, D-IV
2. A-II, B-IV, C-I, D-III
3. A-IV, B-III, C-II, D-I
4. A-III, B-IV, C-I, D-II

Options :

485584146069. 1
485584146070. 2
485584146071. 3
485584146072. 4

Question Number : 133 Question Id : 48558436518 Question Type : MCQ Option Shuffling : No Is Question Mandatory : No Calculator : None Response Time : N.A Think Time : N.A Minimum Instruction Time : 0

Correct Marks : 5 Wrong Marks : 1

Question Key Details :

Key	Value
Comprehension	MCQ

ചേർത്തുപടി ചേർക്കുക

LIST I	LIST II
A. ദണ്ഡി മാർച്ച്	I. 1917
B. ഖിലാഫത്ത് പ്രസ്ഥാനം	II. 1942
C. ക്വിറ്റ് ഇന്ത്യ പ്രസ്ഥാനം	III. 1921
D. ചമ്പാൻ മുഹ്ലൈ	IV. 1930

ശരിയായത് തിരഞ്ഞെടുക്കുക

1. A-I, B-II, C-III, D-IV
2. A-II, B-IV, C-I, D-III
3. A-IV, B-III, C-II, D-I
4. A-III, B-IV, C-I, D-II

Options :

485584146069. 1
485584146070. 2
485584146071. 3
485584146072. 4

Question Number : 134 Question Id : 48558436519 Question Type : MCQ Option Shuffling : No Is Question Mandatory : No Calculator : None Response Time : N.A Think Time : N.A Minimum Instruction Time : 0

Correct Marks : 5 Wrong Marks : 1

Question Key Details :

Key	Value
Comprehension	MCQ

Chronologically arrange the following movements led by Mahatma Gandhi.

- A. Rowlatt Satyagraha
- B. Kheda Movement
- C. Champaran Satyagraha
- D. Ahmedabad Mill Strike
- E. Dandi March

Choose the correct answer from the options given below:

- 1. A, B, C, D, E
- 2. B, D, C, A, E
- 3. C, D, B, A, E
- 4. C, A, B, D, E

Options :

- 485584146073. 1
- 485584146074. 2
- 485584146075. 3
- 485584146076. 4

Question Number : 134 Question Id : 48558436519 Question Type : MCQ Option Shuffling : No Is Question Mandatory : No Calculator : None Response Time : N.A Think Time : N.A Minimum Instruction Time : 0

Correct Marks : 5 Wrong Marks : 1

Question Key Details :

Key	Value
Comprehension	MCQ

മഹാത്മ ഗാന്ധി നേതൃത്വം നൽകിയ താഴെ കൊടുത്തിരിക്കുന്ന പ്രസ്ഥാനങ്ങളെ കാലഗണന അനുസരിച്ച് ക്രമീകരിക്കുക.

- A. റെൽവേ സത്യാഗ്രഹം
- B. ഖേഡ മുപ്പതൊഴ്
- C. ചമ്പാറൻ സത്യാഗ്രഹം
- D. അഹമ്മദാബാദ് മിൽ സമരം
- E. ദണ്ടി മാർച്ച്

ലിസ്റ്റിൽ നിന്ന് ശരിയായത് തിരഞ്ഞെടുക്കുക

- 1. A, B, C, D, E
- 2. B, D, C, A, E
- 3. C, D, B, A, E
- 4. C, A, B, D, E

Options :

- 485584146073. 1
- 485584146074. 2
- 485584146075. 3
- 485584146076. 4

Question Number : 135 Question Id : 48558436520 Question Type : MCQ Option Shuffling : No Is Question Mandatory : No Calculator : None Response Time : N.A Think Time : N.A Minimum Instruction Time : 0

Correct Marks : 5 Wrong Marks : 1

Question Key Details :

Key	Value
Comprehension	MCQ

The 'Hindu Mahasabha' was founded in _____.

1. 1917
2. 1915
3. 1916
4. 1919

Options :

- 485584146077. 1
- 485584146078. 2
- 485584146079. 3
- 485584146080. 4

Question Number : 135 Question Id : 48558436520 Question Type : MCQ Option Shuffling : No Is Question Mandatory : No Calculator : None Response Time : N.A Think Time : N.A Minimum Instruction Time : 0

Correct Marks : 5 Wrong Marks : 1

Question Key Details :

Key	Value
Comprehension	MCQ

ഹിന്ദു മഹാസഭ സ്ഥാപിതമായത്

1. 1917
2. 1915
3. 1916
4. 1919

Options :

- 485584146077. 1
- 485584146078. 2
- 485584146079. 3
- 485584146080. 4

Question Number : 136 Question Id : 48558436521 Question Type : MCQ Option Shuffling : No Is Question Mandatory : No Calculator : None Response Time : N.A Think Time : N.A Minimum Instruction Time : 0

Correct Marks : 5 Wrong Marks : 1

Question Key Details :

Key	Value
Comprehension	MCQ

On which date did the Constituent Assembly begin its sessions?

1. 6 December 1946
2. 9 December 1946
3. 15 July 1946
4. 16 July 1946

Options :

- 485584146081. 1

485584146082. 2
485584146083. 3
485584146084. 4

Question Number : 136 Question Id : 48558436521 Question Type : MCQ Option Shuffling : No Is Question Mandatory : No Calculator : None
Response Time : N.A Think Time : N.A Minimum Instruction Time : 0

Correct Marks : 5 Wrong Marks : 1

Question Key Details :

Key	Value
Comprehension	MCQ

ഭരണഘടന നിർമ്മാണസഭയുടെ സമ്മേളനം ആരംഭിച്ചത് എന്നാണ് ?

1. 6 December 1946
2. 9 December 1946
3. 15 July 1946
4. 16 July 1946

Options :

485584146081. 1
485584146082. 2
485584146083. 3
485584146084. 4

Question Number : 137 Question Id : 48558436522 Question Type : MCQ Option Shuffling : No Is Question Mandatory : No Calculator : None
Response Time : N.A Think Time : N.A Minimum Instruction Time : 0

Correct Marks : 5 Wrong Marks : 1

Question Key Details :

Key	Value
Comprehension	MCQ

Match List I with List II:

LIST I	LIST II
A. Cultural and Educational Rights	I. Articles 25-28
B. Right to Equality	II. Articles 17
C. Freedom of Religion	III. Article 14-16
D. Abolition of Untouchability	IV. Articles 29,30

Choose the correct answer from the options given below:

1. A-II, B-III, C-IV, D-I
2. A-IV, B-III, C-II, D-I
3. A-I, B-II, C-III, D-IV
4. A-IV, B-III, C-I, D-II

Options :

485584146085. 1
485584146086. 2
485584146087. 3
485584146088. 4

Question Number : 137 Question Id : 48558436522 Question Type : MCQ Option Shuffling : No Is Question Mandatory : No Calculator : None
Response Time : N.A Think Time : N.A Minimum Instruction Time : 0

Correct Marks : 5 Wrong Marks : 1

Question Key Details :

Key	Value
Comprehension	MCQ

ചോദ്യംപടി ചോദ്യങ്ങൾ

	LIST I		LIST II
A.	സാംസ്കാരിക വിദ്യാഭ്യാസ അവകാശം	I.	Articles 25-28
B.	തുല്യതയ്ക്കുള്ള അവകാശം	II.	Articles 17
C.	മതസ്വാതന്ത്ര്യം	III.	Article 14-16
D.	തൊട്ടുകൂട്ടായ്മ നിരോധനം	IV.	Articles 29,30

ശരിയായത് തിരഞ്ഞെടുക്കുക

1. A-II, B-III, C-IV, D-I
2. A-IV, B-III, C-II, D-I
3. A-I, B-II, C-III, D-IV
4. A-IV, B-III, C-I, D-II

Options :

- 485584146085. 1
- 485584146086. 2
- 485584146087. 3
- 485584146088. 4

Question Number : 138 Question Id : 48558436523 Question Type : MCQ Option Shuffling : No Is Question Mandatory : No Calculator : None Response Time : N.A Think Time : N.A Minimum Instruction Time : 0

Correct Marks : 5 Wrong Marks : 1

Question Key Details :

Key	Value
Comprehension	MCQ

Who were the two other lawyers serving with B.R. Ambedkar on the Drafting Committee of the Constitution?

- A. K.M. Munshi
- B. B.N Rau
- C. Alladi Krishnaswamy Aiyar
- D. S.N. Mukherjee
- E. Rajendra Prasad

Choose the correct answer from the options given below:

1. A, B only
2. B, C only
3. A, C only
4. D, E only

Options :

- 485584146089. 1
- 485584146090. 2
- 485584146091. 3
- 485584146092. 4

Question Number : 138 Question Id : 48558436523 Question Type : MCQ Option Shuffling : No Is Question Mandatory : No Calculator : None Response Time : N.A Think Time : N.A Minimum Instruction Time : 0

Correct Marks : 5 Wrong Marks : 1

Question Key Details :

Key	Value
Comprehension	MCQ

ബി.ആർ. അംബേദ്കർക്ക് ഒപ്പം ഭരണഘടനാ കരട് രൂപീകരണ കമ്മിറ്റിയിൽ പ്രവർത്തിച്ച രണ്ട് നിയമപാലകർ ആരെല്ലാം.

- A. K.M. മുൻഷി
- B. B.N റാവു
- C. അല്ലാഹി കൃഷ്ണസ്വാമി അയ്യർ
- D. S.N. മുഖർജി
- E. രാജേന്ദ്ര പ്രസാദ്

ശരിയായത് തിരഞ്ഞെടുക്കുക

- 1. A and B only
- 2. B and C only
- 3. A and C only
- 4. D and E only

Options :

- 485584146089. 1
- 485584146090. 2
- 485584146091. 3
- 485584146092. 4

Question Number : 139 Question Id : 48558436524 Question Type : MCQ Option Shuffling : No Is Question Mandatory : No Calculator : None Response Time : N.A Think Time : N.A Minimum Instruction Time : 0

Correct Marks : 5 Wrong Marks : 1

Question Key Details :

Key	Value
Comprehension	MCQ

Arrange the following in a chronological order:

- A. Constituent Assembly begins its session.
- B. Muslim League accepts Cabinet Mission's constitutional scheme.
- C. Muslim League decides to join the Interim Government.
- D. Muslim League announces Direct Action Day.
- E. Muslim League demands dissolution of the Constituent Assembly.

Choose the correct answer from the options given below:

- 1. B, D, C, A, E
- 2. B, A, D, C, E
- 3. A, B, C, D, E
- 4. D, A, E, B, C

Options :

- 485584146093. 1
- 485584146094. 2
- 485584146095. 3
- 485584146096. 4

Question Number : 139 Question Id : 48558436524 Question Type : MCQ Option Shuffling : No Is Question Mandatory : No Calculator : None Response Time : N.A Think Time : N.A Minimum Instruction Time : 0

Correct Marks : 5 Wrong Marks : 1

Question Key Details :

Key	Value
Comprehension	MCQ

കാലാനുഗണന അനുസരിച്ച് ക്രമീകരിക്കുക.

- A. ഭരണഘടനാ നിർമ്മാണ സഭ സമ്മേളനം ആരംഭിച്ചത്
- B. ക്യാബിനറ്റ് മിഷന്റെ ഭരണഘടനാ പദ്ധതി മുസ്ലിം ലീഗ് ആംഗരിച്ചത്
- C. ഇടക്കാല ഗവൺമെന്റിൽ ചേരാൻ മുസ്ലിം ലീഗ് തീരുമാനിച്ചത്
- D. മുസ്ലിം ലീഗ് ഡയറക്ടർ ആക്ഷൻ ഡെ പ്രഖ്യാപിച്ചത്
- E. മുസ്ലിം ലീഗ് ഭരണഘടനാ നിർമ്മാണ സഭ പിരിച്ചു വിടാനാവശ്യപ്പെട്ടത്

ശരിയായത് തിരഞ്ഞെടുക്കുക

- 1. B, D, C, A, E
- 2. B, A, D, C, E
- 3. A, B, C, D, E
- 4. D, A, E, B, C

Options :

- 485584146093. 1
- 485584146094. 2
- 485584146095. 3
- 485584146096. 4

Question Number : 140 Question Id : 48558436525 Question Type : MCQ Option Shuffling : No Is Question Mandatory : No Calculator : None Response Time : N.A Think Time : N.A Minimum Instruction Time : 0

Correct Marks : 5 Wrong Marks : 1

Question Key Details :

Key	Value
Comprehension	MCQ

Which of the following statements are True for the Constituent Assembly?

- A. It was boycotted by the Muslim League.
- B. It was elected by Universal Franchise.
- C. Its members were chosen by Provincial Legislatures.
- D. Majority of its members belonged to the Socialist Party.
- E. Constituent Assembly was dominated by three parties.

Choose the correct answer from the options given below:

- 1. A, E only
- 2. B, D only
- 3. A, C only
- 4. B, E only

Options :

- 485584146097. 1
- 485584146098. 2
- 485584146099. 3
- 485584146100. 4

Question Number : 140 Question Id : 48558436525 Question Type : MCQ Option Shuffling : No Is Question Mandatory : No Calculator : None Response Time : N.A Think Time : N.A Minimum Instruction Time : 0

Correct Marks : 5 Wrong Marks : 1

Question Key Details :

Key	Value
Comprehension	MCQ

ഭരണഘടനാ നിർമ്മാണ സഭയുമായി ബന്ധപ്പെട്ട് ശരിയായ പ്രസ്താവനകൾ ഏതെല്ലാം ?

- A. മുസ്ലിം ലീഗ് ഇത് ബഹിഷ്കരിച്ചു.
- B. പൊതു വോട്ടവകാശത്തിന്റെ അടിസ്ഥാനത്തിലാണ് ഇത് തിരഞ്ഞെടുക്കപ്പെട്ടത്
- C. പ്രാദേശിക നിയമ നിർമ്മാണ സഭകളിൽ നിന്നാണ് ഇതിലെ അംഗങ്ങളെ തിരഞ്ഞെടുത്തത്.
- D. ഭൂരിപക്ഷം അംഗങ്ങളും സോഷ്യലിസ്റ്റ് പാർട്ടിക്കാരായിരുന്നു.
- E. ഭരണഘടനാ നിർമ്മാണ സഭയിൽ മൂന്ന് പാർട്ടികൾക്ക് മേധാവിത്വം ഉണ്ടായിരുന്നു

ശരിയായത് തിരഞ്ഞെടുക്കുക

- 1. A and E only
- 2. B and D only
- 3. A and C only
- 4. B and E only

Options :

- 485584146097. 1
- 485584146098. 2
- 485584146099. 3
- 485584146100. 4

Sub-Section Number : 2
 Sub-Section Id : 4855842697
 Question Shuffling Allowed : No
 Is Section Default? : null

Question Number : 141 Question Id : 48558436526 Question Type : MCQ Option Shuffling : No Is Question Mandatory : No Calculator : None Response Time : N.A Think Time : N.A Minimum Instruction Time : 0

Correct Marks : 5 Wrong Marks : 1

Question Key Details :

Key	Value
Comprehension	Comp1

Read the passage and answer the questions :

According to Buddhist philosophy, the world is transient (anicca) and constantly changing; it is also soulless (anatta) as there is nothing permanent or eternal in it. Within this transient world, sorrow (dukkha) is intrinsic to human existence. It is by following the path of moderation between severe penance and self-indulgence that human beings can rise above these worldly troubles. In the earliest forms of Buddhism whether or not god existed was irrelevant.

Which of the following statement is **NOT True** regarding the Buddhist philosophy?

- 1. The world is transient and constantly changing.
- 2. Sorrow is intrinsic to human existence.
- 3. Humans can rise above sorrow by following the path of severe penance and self-indulgence.
- 4. The world is soulless as there is nothing permanent or eternal in it.

Options :

- 485584146101. 1
- 485584146102. 2
- 485584146103. 3
- 485584146104. 4

Question Number : 141 Question Id : 48558436526 Question Type : MCQ Option Shuffling : No Is Question Mandatory : No Calculator : None Response Time : N.A Think Time : N.A Minimum Instruction Time : 0

Correct Marks : 5 Wrong Marks : 1

Question Key Details :

Key	Value
Comprehension	Comp1

ബുദ്ധമത തത്വശാസ്ത്ര പ്രകാരം ലോകം അസ്ഥിരവും അണിചു നിരന്തര മാറ്റത്തിന് വിധേയവുമാണ്. ഇതിൽ ആത്യന്തികമോ, സ്ഥിരമോ ആയി ഒന്നും ഇല്ലാത്തതിനാൽ അതിനു ആത്മാവ് ഇല്ല. അസ്ഥിരമായ ഈ ലോകത്തിൽ, ദുഃഖം മനുഷ്യ ജീവിതത്തിൽ ഉള്ളടങ്ങിയിരിക്കുന്നു. സുഖ ലോലുപതകളും കഠിനമായ പരിത്യാഗത്തിനും ഇടകയ്ക്കിയ മധ്യ മാർഗ്ഗം സ്വീകരിക്കുന്നത് വഴിയാണ്. ഒരാൾക്ക് ലൌകിക ജീവിതത്തിന്റെ പ്രശ്നങ്ങളിൽ നിന്ന് രക്ഷപെടാൻ കഴിയുക. ബുദ്ധ മതത്തിന്റെ ആദ്യകാല രൂപങ്ങളിൽ ഒരൊരം ഉണ്ടോ ഇല്ലെങ്കിലും എന്നത അപ്രസക്തമായിരുന്നു.

ബുദ്ധമതപ്രകാരം ശരിയല്ലാത്തത് എന്ത്?

1. ലോകം അപ്രസക്തവും സ്ഥിരമായി മാറിക്കൊണ്ടിരിക്കുന്നതുമാണ്.
2. ദുഃഖം മനുഷ്യ ജീവിതത്തിൽ ഉള്ളടങ്ങിയിരിക്കുന്നു
3. കഠിനമായ പരിത്യാഗത്തിലും, സുഖലോലുപതയിലും ഏർപ്പെടുന്നത് വഴി മനുഷ്യന് ലൌകിക ദുഃഖത്തെ മറികടക്കാൻ കഴിയും
4. ആത്യന്തികമോ, സ്ഥിരമോ ആയി ഒന്നും ഇല്ലാത്തതിനാൽ ലോകത്തിന് ആത്മാവ് ഇല്ല.

Options :

- 485584146101. 1
- 485584146102. 2
- 485584146103. 3
- 485584146104. 4

Question Number : 142 Question Id : 48558436527 Question Type : MCQ Option Shuffling : No Is Question Mandatory : No Calculator : None Response Time : N.A Think Time : N.A Minimum Instruction Time : 0

Correct Marks : 5 Wrong Marks : 1

Question Key Details :

Key	Value
Comprehension	Comp1

Read the passage and answer the questions :

According to Buddhist philosophy, the world is transient (anicca) and constantly changing; it is also soulless (anatta) as there is nothing permanent or eternal in it. Within this transient world, sorrow (dukkha) is intrinsic to human existence. It is by following the path of moderation between severe penance and self indulgence that human beings can rise above these worldly troubles. In the earliest forms of Buddhism whether or not god existed was irrelevant.

Which of the following idea is NOT a part of the teachings of the Buddha?

1. Importance of right conduct and values.
2. Claims of superiority based on birth.
3. Metta (fellow feeling).
4. Karuna (compassion).

Options :

- 485584146105. 1
- 485584146106. 2
- 485584146107. 3
- 485584146108. 4

Question Number : 142 Question Id : 48558436527 Question Type : MCQ Option Shuffling : No Is Question Mandatory : No Calculator : None Response Time : N.A Think Time : N.A Minimum Instruction Time : 0

Correct Marks : 5 Wrong Marks : 1

Question Key Details :

Key	Value
Comprehension	Comp1

ബുദ്ധമത തത്വശാസ്ത്ര പ്രകാരം ലോകം അസ്ഥിരവും അണിപു നിരന്തര മാറ്റത്തിന് വിധേയവുമാണ്. ഇതിൽ ആത്യന്തികമോ, സ്ഥിരമോ ആയി ഒന്നും ഇല്ലാത്തതിനാൽ അതിനു ആത്മാവ് ഇല്ല. അസ്ഥിരമായ ഈ ലോകത്തിൽ, ദുഃഖം മനുഷ്യ ജീവിതത്തിൽ ഉള്ളടങ്ങിയിരിക്കുന്നു. സുഖ ലോലുപതകളും കഠിനമായ പരിത്യാഗത്തിനും ഇടകളുള്ള മധ്യ മാർഗ്ഗം സ്വീകരിക്കുന്നത് വഴിയാണ് ഹരാൾക്കി ലെർക്കീക ജീവിതത്തിന്റെ പ്രശ്നങ്ങളിൽ നിന്ന രക്ഷപെടാൻ കഴിയുക. ബുദ്ധ മതത്തിന്റെ ആദ്യകാല രൂപങ്ങളിൽ ഒന്നും ഉണ്ടോ ഇല്ലെങ്കിലും എന്നത് അപ്രസക്തമായിരുന്നു.

ബുദ്ധമത ദർശനങ്ങളുടെ ഭാഗമല്ലാത്ത ആശയം ഏത് ?

1. ശരിയായ പ്രവൃത്തിയുടെയും മൂല്യങ്ങളുടെയും പ്രാധാന്യം
2. ജന്മം അടിസ്ഥാനമാക്കിയുള്ള മേൽക്കോയ്മ
3. സാഹോദര്യം
4. കരുണ

Options :

- 485584146105. 1
- 485584146106. 2
- 485584146107. 3
- 485584146108. 4

Question Number : 143 Question Id : 48558436528 Question Type : MCQ Option Shuffling : No Is Question Mandatory : No Calculator : None Response Time : N.A Think Time : N.A Minimum Instruction Time : 0

Correct Marks : 5 Wrong Marks : 1

Question Key Details :

Key	Value
Comprehension	Comp1

Read the passage and answer the questions :

According to Buddhist philosophy, the world is transient (anicca) and constantly changing; it is also soulless (anatta) as there is nothing permanent or eternal in it. Within this transient world, sorrow (dukkha) is intrinsic to human existence. It is by following the path of moderation between severe penance and self indulgence that human beings can rise above these worldly troubles. In the earliest forms of Buddhism whether or not god existed was irrelevant.

In Buddhism, the followers of the older tradition, who followed the old path and respected teachers, described themselves as:

1. Theravadins
2. Mahayanas
3. Tantravadins
4. Tantrics

Options :

- 485584146109. 1
- 485584146110. 2
- 485584146111. 3
- 485584146112. 4

Question Number : 143 Question Id : 48558436528 Question Type : MCQ Option Shuffling : No Is Question Mandatory : No Calculator : None Response Time : N.A Think Time : N.A Minimum Instruction Time : 0

Correct Marks : 5 Wrong Marks : 1

Question Key Details :

Key	Value
Comprehension	Comp1

ബുദ്ധമത തത്വശാസ്ത്ര പ്രകാരം ലോകം അസ്ഥിരവും അണിപു നിരന്തര മാറ്റത്തിന് വിധേയവുമാണ്. ഇതിൽ ആത്യന്തികമോ, സ്ഥിരമോ ആയി ഒന്നും ഇല്ലാത്തതിനാൽ അതിനു ആത്മാവ് ഇല്ല. അസ്ഥിരമായ ഈ ലോകത്തിൽ, ദുഃഖം മനുഷ്യ ജീവിതത്തിൽ ഉള്ളടങ്ങിയിരിക്കുന്നു. സുഖ ലോലുപതകളും കഠിനമായ പരിത്യാഗത്തിനും ഇടകയ്ക്കിയ മധ്യ മാർഗ്ഗം സ്വീകരിക്കുന്നത് വഴിയാണ് ഒരാൾക്ക് ലെർകീക ജീവിതത്തിന്റെ പ്രശ്നങ്ങളിൽ നിന്ന് രക്ഷപെടാൻ കഴിയുക. ബുദ്ധ മതത്തിന്റെ ആദ്യകാല രൂപങ്ങളിൽ ഒരൊരം ഉണ്ടോ ഇല്ലെങ്കിലും എന്നത് അപ്രസക്തമായിരുന്നു.

ബുദ്ധമതത്തിൽ പഴയ പാരമ്പര്യം പിന്തുടരുന്നവർ തങ്ങളെത്തന്നെ വിശേഷിപ്പിക്കുന്നത് :

1. തിറവാടിൻ്റെ
2. മഹായാനാൻ്റെ
3. തറവാടിൻ്റെ
4. താൻ്റെ

Options :

- 485584146109. 1
- 485584146110. 2
- 485584146111. 3
- 485584146112. 4

Question Number : 144 Question Id : 48558436529 Question Type : MCQ Option Shuffling : No Is Question Mandatory : No Calculator : None Response Time : N.A Think Time : N.A Minimum Instruction Time : 0

Correct Marks : 5 Wrong Marks : 1

Question Key Details :

Key	Value
Comprehension	Comp1

Read the passage and answer the questions :

According to Buddhist philosophy, the world is transient (anicca) and constantly changing; it is also soulless (anatta) as there is nothing permanent or eternal in it. Within this transient world, sorrow (dukkha) is intrinsic to human existence. It is by following the path of moderation between severe penance and self indulgence that human beings can rise above these worldly troubles. In the earliest forms of Buddhism whether or not god existed was irrelevant.

Where did Gautama Buddha attain 'nibbana'?

1. Lunabini
2. Rajgruha
3. Sarnath
4. Kusinagara

Options :

- 485584146113. 1
- 485584146114. 2
- 485584146115. 3
- 485584146116. 4

Question Number : 144 Question Id : 48558436529 Question Type : MCQ Option Shuffling : No Is Question Mandatory : No Calculator : None Response Time : N.A Think Time : N.A Minimum Instruction Time : 0

Correct Marks : 5 Wrong Marks : 1

Question Key Details :

Key	Value
Comprehension	Comp1

ബുദ്ധമത തത്വശാസ്ത്ര പ്രകാരം ലോകം അസ്ഥിരവും അണിചു നിരന്തര മാറ്റത്തിന് വിധേയവുമാണ്. ഇതിൽ ആത്യന്തികമോ, സ്ഥിരമോ ആയി ഒന്നും ഇല്ലാത്തതിനാൽ അതിനു ആശമാവ ഇല്ല. അസ്ഥിരമായ ഈ ലോകത്തിൽ, ദുഃഖം മനുഷ്യ ജീവിതത്തിൽ ഉള്ളടങ്ങിയിരിക്കുന്നു. സുഖ ലോലുപതകളും കഠിനമായ പരിത്യാഗത്തിനും ഇടകളുള്ള മധ്യ മാർഗ്ഗം സ്വീകരിക്കുന്നത് വഴിയാണ് ഒരാൾക്ക് ലെർകീക ജീവിതത്തിന്റെ പ്രശ്നങ്ങളിൽ നിന്ന് രക്ഷപെടാൻ കഴിയുക. ബുദ്ധ മതത്തിന്റെ ആദ്യകാല രൂപങ്ങളിൽ ഒരൊരം ഉണ്ടോ ഇല്ലെങ്കിലും എന്നത് അപ്രസക്തമായിരുന്നു.

എവിടെയാണ് ഹൈന്ദവ ബുദ്ധൻ നിർവാണമടഞ്ഞത്?

1. ലുംബിനി
2. രാജഗൃഹ
3. സാരനാഥ്
4. കുഷിനഗര

Options :

- 485584146113. 1
- 485584146114. 2
- 485584146115. 3
- 485584146116. 4

Question Number : 145 Question Id : 48558436530 Question Type : MCQ Option Shuffling : No Is Question Mandatory : No Calculator : None Response Time : N.A Think Time : N.A Minimum Instruction Time : 0

Correct Marks : 5 Wrong Marks : 1

Question Key Details :

Key	Value
Comprehension	Comp1

Read the passage and answer the questions :

According to Buddhist philosophy, the world is transient (anicca) and constantly changing; it is also soulless (anatta) as there is nothing permanent or eternal in it. Within this transient world, sorrow (dukkha) is intrinsic to human existence. It is by following the path of moderation between severe penance and self indulgence that human beings can rise above these worldly troubles. In the earliest forms of Buddhism whether or not god existed was irrelevant.

Which of the following statements are True about the teachings of Buddha?

- A. The Buddha regarded the social world as of divine origin.
- B. The Buddha advised kings and gahapatis to be humane and ethical.
- C. The Buddha believed that collective effort was required to transform social relations.
- D. The Buddha emphasised individual agency and righteous action to escape from the cycle of birth.
- E. The Buddha asserted that the extinguishing of ego and desire would end the cycle of suffering.

Choose the correct answer from the options given below:

1. C, D, E only
2. B, C, D only
3. A, B, D only
4. B, D, E only

Options :

- 485584146117. 1
- 485584146118. 2
- 485584146119. 3
- 485584146120. 4

Question Number : 145 Question Id : 48558436530 Question Type : MCQ Option Shuffling : No Is Question Mandatory : No Calculator : None Response Time : N.A Think Time : N.A Minimum Instruction Time : 0

Correct Marks : 5 Wrong Marks : 1

Question Key Details :

Key	Value
Comprehension	Comp1

ബുദ്ധമത തത്വശാസ്ത്ര പ്രകാരം ലോകം അസ്ഥിരവും അണിചു നിരന്തര മാറ്റത്തിന് വിധേയവുമാണ്. ഇതിൽ ആത്യന്തികമോ, സ്ഥിരമോ ആയി ഒന്നും ഇല്ലാത്തതിനാൽ അതിനു ആത്മാവ് ഇല്ല. അസ്ഥിരമായ ഈ ലോകത്തിൽ, ദുഃഖം മനുഷ്യ ജീവിതത്തിൽ ഉള്ളടങ്ങിയിരിക്കുന്നു. സുഖ ലോലുപതകളും കഠിനമായ പരിത്യാഗത്തിനും ഇടകളുള്ള മധ്യ മാർഗ്ഗം സ്വീകരിക്കുന്നത് വഴിയാണ്. ഒരാൾക്ക് ലൌകിക ജീവിതത്തിന്റെ പ്രശ്നങ്ങളിൽ നിന്ന് രക്ഷപെടാൻ കഴിയുക. ബുദ്ധമതത്തിന്റെ ആദ്യകാല രൂപങ്ങളിൽ റൈംബോ ഉണ്ടോ ഇല്ലെങ്കിലും എന്നത അപ്രസക്തമായിരുന്നു.

ബുദ്ധിസത്തിന്റെ അടിസ്ഥാനത്തിൽ ശരിയായ വസ്തുത?

- A. സാമൂഹിക ലോകത്തിന്റെ ഉത്ഭവം ദൈവികമാണെന്ന് ബുദ്ധൻ വിശ്വസിച്ചു
- B. രാജാക്കന്മാരും കുടുംബനാഥന്മാരും മനുഷ്യത്വപരമായും ധാർമികമായും പെരുമാറാണമെന്ന് ബുദ്ധൻ ഉപദേശിച്ചു
- C. ഒരുമിച്ചുള്ള പ്രവർത്തനം സാമൂഹിക മാറ്റത്തിന് അനിവാര്യമാണ്.
- D. വ്യക്തിപരമായ ഇച്ഛ കൊണ്ടും നല്ല പ്രവൃത്തികൊണ്ടും ജനന മരണ ചക്രത്തിൽ നിന്ന് രക്ഷ നേടാമെന്ന് ബുദ്ധൻ പഠിപ്പിച്ചു
- E. ബുദ്ധന്റെ അഭിപ്രായത്തിൽ അഹംഭാവം ശമിപ്പിക്കുന്നത് വഴി എല്ലാ സഹനങ്ങളിൽ നിന്നും മോചനം നേടാം

ശരിയായത് തിരഞ്ഞെടുക്കുക

- 1. C, D, E മാത്രം
- 2. B, C, D മാത്രം
- 3. A, B, D മാത്രം
- 4. B, D, E മാത്രം

Options :

- 485584146117. 1
- 485584146118. 2
- 485584146119. 3
- 485584146120. 4

Sub-Section Number : 3
Sub-Section Id : 4855842698
Question Shuffling Allowed : No
Is Section Default? : null

Question Number : 146 Question Id : 48558436531 Question Type : MCQ Option Shuffling : No Is Question Mandatory : No Calculator : None Response Time : N.A Think Time : N.A Minimum Instruction Time : 0

Correct Marks : 5 Wrong Marks : 1

Question Key Details :

Key	Value
Comprehension	Comp2

Read the passage and answer the questions :

Section I - Regarding Zemindars. It is evident that the British Government in making zemindary settlement have imposed exorbitant *Jumas* (revenue demand) and have disgraced and ruined several Zemindars by putting up their estates for public auction for arrears of rent, in so much, in the institution of a suit by a common Ryot, a maid servant or a slave, the respectable Zemindars are summoned into court, arrested, put in goal and disgraced. In litigation regarding Zemindaries, the immense value of stamps, and other unnecessary expenses of the civil courts, ... are all calculated to impoverish the litigants. Besides this, the coffers of the Zemindars are annually taxed with the subscription for schools, hospitals, roads, etc. Such extortions will have no manner of existence in the Badshahi Government; but on the contrary the *Jumas* will be light, the dignity and honour of the Zemindars safe, and every Zemindar will have absolute rule in his own Zemindary...

This excerpt has been taken from:

1. Bijnour Proclamation of 1857
2. Kanpur Proclamation of 1857
3. Azamgarh Proclamation of 1857
4. Lucknow Proclamation of 1857

Options :

- 485584146121. 1
- 485584146122. 2
- 485584146123. 3
- 485584146124. 4

Question Number : 146 Question Id : 48558436531 Question Type : MCQ Option Shuffling : No Is Question Mandatory : No Calculator : None Response Time : N.A Think Time : N.A Minimum Instruction Time : 0

Correct Marks : 5 Wrong Marks : 1

Question Key Details :

Key	Value
Comprehension	Comp2

സെക്ഷൻ 1- സെമീന്താർമാരുമായി ബന്ധപ്പെട്ട്

സെമീന്താർ സമ്പ്രദായം അവതരിപ്പിക്കുക വഴി ബ്രിട്ടീഷുകാർ വലിയ തോതിലുള്ള ഭൂനികുതിയാണ് (ജുമാസ്) ചുമത്തിയിരുന്നത് എന്നത് വ്യക്തമാണ്. ഏതെങ്കിലും തരത്തിൽ നികുതി അടക്കുന്നതിൽ വീഴ്ച വരുത്തുന്ന സെമീന്താർമാരുടെ ഭൂമി പരസ്യമായി ലേലം ചെയ്തിരുന്നു . ഏതെങ്കിലും സെമീന്താറുടെ അടിമയോ, സേവകയോ അയാൾക്കെതിരെ പരാതി നൽകുന്ന സാഹചര്യത്തിൽ അയാളെ കോടതിയിലേക്ക് വിളിച്ചു വരുത്തുകയും, തടവിലിടുകയും അത് വഴി അയാളെ അപമാനപ്പെടുത്തുകയും ചെയ്യാറുണ്ടായിരുന്നു. കോടതി വ്യവഹാരത്തിൽ പെടുന്ന സെമീന്താർമാർ കോടതി ചിലവുകൾ മൂലം പലപ്പോഴും ദരിദ്രർ ആകുമായിരുന്നു. ഇത് കൂടാതെ, സ്കൂളുകൾ , റോഡുകൾ , ആശുപത്രികൾ എന്നിവയുടെ ചിലവിലേക്കായി സെമീന്താർമാരുടെ കയ്യിൽ നിന്നും പണം ഈടാക്കിയിരുന്നു . ഇത്തരത്തിലുള്ള പണം ഈടാക്കലുകൾക്ക് ബാദ്ഷാഹി ഭരണത്തിൽ സ്ഥാനമുണ്ടാവില്ല. ജുമാസിൽ ഇളവുകൾ നൽകും. സെമീന്താർമാരുടെ അന്തസ്സും അഭിമാനവും സംരക്ഷിക്കപ്പെടും. സെമീന്താർമാർക്ക് തങ്ങളുടെ ഭൂമിയിൽ പൂർണ്ണ അധികാരം ഉണ്ടായിരിക്കും .

ഈ കുറിപ്പ് എടുത്തിരിക്കുന്നത് :

1. ബിജാനൂർ പ്രഖ്യാപനം 1857
2. കാൺപൂർ പ്രഖ്യാപനം 1857
3. അസംഗഡ് പ്രഖ്യാപനം 1857
4. ലക്നൗ പ്രഖ്യാപനം 1857

Options :

485584146121. 1
485584146122. 2
485584146123. 3
485584146124. 4

Question Number : 147 Question Id : 48558436532 Question Type : MCQ Option Shuffling : No Is Question Mandatory : No Calculator : None Response Time : N.A Think Time : N.A Minimum Instruction Time : 0

Correct Marks : 5 Wrong Marks : 1

Question Key Details :

Key	Value
Comprehension	Comp2

Read the passage and answer the questions :

Section I - Regarding Zemindars. It is evident that the British Government in making zemindary settlement have imposed exorbitant *Jumas* (revenue demand) and have disgraced and ruined several Zemindars by putting up their estates for public auction for arrears of rent, in so much, in the institution of a suit by a common Ryot, a maid servant or a slave, the respectable Zemindars are summoned into court, arrested, put in goal and disgraced. In litigation regarding Zemindaries, the immense value of stamps, and other unnecessary expenses of the civil courts,... are all calculated to impoverish the litigants. Besides this, the coffers of the Zemindars are annually taxed with the subscription for schools, hospitals, roads, etc. Such extortions will have no manner of existence in the Badshahi Government; but on the contrary the *Jumars* will be light, the dignity and honour of the Zemindars safe, and every Zemindar will have absolute rule in his own Zemindary...

"Section I" of the Proclamation addresses to which class?

1. Service gentry class
2. Land holding class
3. Merchant-commercial class
4. Artisans and peasants

Options :

485584146125. 1
485584146126. 2
485584146127. 3
485584146128. 4

Question Number : 147 Question Id : 48558436532 Question Type : MCQ Option Shuffling : No Is Question Mandatory : No Calculator : None Response Time : N.A Think Time : N.A Minimum Instruction Time : 0

Correct Marks : 5 Wrong Marks : 1

Question Key Details :

Key	Value
Comprehension	Comp2

സെക്ഷൻ 1- സെമീന്താർമാരുമായി ബന്ധപ്പെട്ട്

സെമീന്താർ സമ്പ്രദായം അവതരിപ്പിക്കുക വഴി ബ്രിട്ടീഷുകാർ വലിയ തോതിലുള്ള ഭൂനികുതിയാണ് (ജുമാസ്) ചുമത്തിയിരുന്നത് എന്നത് വ്യക്തമാണ്. ഏതെങ്കിലും തരത്തിൽ നികുതി അടക്കുന്നതിൽ വീഴ്ച വരുത്തുന്ന സെമീന്താർമാരുടെ ഭൂമി പരസ്യമായി ലേലം ചെയ്തിരുന്നു. ഏതെങ്കിലും സെമീന്താറുടെ അടിമയോ, സേവകയോ അയാൾക്കെതിരെ പരാതി നൽകുന്ന സാഹചര്യത്തിൽ അയാളെ കോടതിയിലേക്ക് വിളിച്ചു വരുത്തുകയും, തടവിലിടുകയും അത് വഴി അയാളെ അപമാനപ്പെടുത്തുകയും ചെയ്യാറുണ്ടായിരുന്നു. കോടതി വ്യവഹാരത്തിൽ പെടുന്ന സെമീന്താർമാർ കോടതി ചിലവുകൾ മൂലം പലപ്പോഴും ദരിദ്രർ ആകുമായിരുന്നു. ഇത് കൂടാതെ, സ്ത്രീകൾ, റോഡുകൾ, ആശുപത്രികൾ എന്നിവയുടെ ചിലവിലേക്കായി സെമീന്താർമാരുടെ കയ്യിൽ നിന്നും പണം ഈടാക്കിയിരുന്നു. ഇത്തരത്തിലുള്ള പണം ഈടാക്കലുകൾക്ക് ബാറേഷ്വാഹി ഭരണത്തിൽ സ്ഥാനമുണ്ടാവില്ല. ജുമാസിൽ ഇളവുകൾ നൽകും. സെമീന്താർമാരുടെ അനന്തരം അഭിമാനവും സംരക്ഷിക്കപ്പെടും. സെമീന്താർമാർക്ക് തങ്ങളുടെ ഭൂമിയിൽ പൂർണ്ണ അധികാരം ഉണ്ടായിരിക്കും.

സെക്ഷൻ 1 പ്രഖ്യാപനം ഏത് വിഭാഗത്തെ സംബന്ധിക്കുന്നതായിരുന്നു?

- 1. സേവന മേഖലയെ
- 2. ഭൂ ഉടമ മേഖലയെ
- 3. കച്ചവട വ്യാപാര വിഭാഗം
- 4. കൈ തൊഴിലാളികളും കുർഷകരും

Options :

- 485584146125. 1
- 485584146126. 2
- 485584146127. 3
- 485584146128. 4

Question Number : 148 Question Id : 48558436533 Question Type : MCQ Option Shuffling : No Is Question Mandatory : No Calculator : None Response Time : N.A Think Time : N.A Minimum Instruction Time : 0 Correct Marks : 5 Wrong Marks : 1

Question Key Details :

Key	Value
Comprehension	Comp2

Read the passage and answer the questions :

Section I - Regarding Zemindars. It is evident that the British Government in making zemindary settlement have imposed exorbitant *Jumas* (revenue demand) and have disgraced and ruined several Zemindars by putting up their estates for public auction for arrears of rent, in so much, in the institution of a suit by a common Ryot, a maid servant or a slave, the respectable Zemindars are summoned into court, arrested, put in goal and disgraced. In litigation regarding Zemindaries, the immense value of stamps, and other unnecessary expenses of the civil courts,... are all calculated to impoverish the litigants. Besides this, the coffers of the Zemindars are annually taxed with the subscription for schools, hospitals, roads, etc. Such extortions will have no manner of existence in the Badshahi Government; but on the contrary the *Jumas* will be light, the dignity and honour of the Zemindars safe, and every Zemindar will have absolute rule in his own Zemindary...

Which of the difficulties and miseries of the zamindars have NOT been addressed in the Proclamation?

1. Absolute maximising of land tax.
2. Loss of social prestige.
3. Financial burden of the litigation.
4. Backwardness in communication and transportation.

Options :

- 485584146129. 1
- 485584146130. 2
- 485584146131. 3
- 485584146132. 4

Question Number : 148 Question Id : 48558436533 Question Type : MCQ Option Shuffling : No Is Question Mandatory : No Calculator : None Response Time : N.A Think Time : N.A Minimum Instruction Time : 0

Correct Marks : 5 Wrong Marks : 1

Question Key Details :

Key	Value
Comprehension	Comp2

സെക്ഷൻ 1- സെമീന്താർമാരുമായി ബന്ധപ്പെട്ട്

സെമീന്താർ സമ്പ്രദായം അവതരിപ്പിക്കുക വഴി ബ്രിട്ടീഷുകാർ വലിയ തോതിലുള്ള ഭൂനികുതിയാണ് (ജുമാസ്) ചുമത്തിയിരുന്നത് എന്നത് വ്യക്തമാണ്. ഏതെങ്കിലും തരത്തിൽ നികുതി അടയ്ക്കുന്നതിൽ വീഴ്ച വരുത്തുന്ന സെമീന്താർമാരുടെ ഭൂമി പരസ്യമായി ലേലം ചെയ്തിരുന്നു . ഏതെങ്കിലും സെമീന്താറുടെ അടിമയോ, സേവകയോ അയാൾക്കെതിരെ പരാതി നൽകുന്ന സാഹചര്യത്തിൽ അയാളെ കോടതിയിലേക്ക് വിളിച്ചു വരുത്തുകയും, തടവിലിടുകയും അത് വഴി അയാളെ അപമാനപ്പെടുത്തുകയും ചെയ്യാറുണ്ടായിരുന്നു. കോടതി വ്യവഹാരത്തിൽ പെടുന്ന സെമീന്താർമാർ കോടതി ചിലവുകൾ മൂലം പലപ്പോഴും ദരിദ്രർ ആകുമായിരുന്നു. ഇത് കൂടാതെ, സ്ത്രീകൾ , റോഡുകൾ , ആശുപത്രികൾ എന്നിവയുടെ ചിലവിലേക്കായി സെമീന്താർമാരുടെ കയ്യിൽ നിന്നും പണം ഈടാക്കിയിരുന്നു . ഇത്തരത്തിലുള്ള പണം ഈടാക്കലുകൾക്ക് ബാദാഷാഹി ഭരണത്തിൽ സ്ഥാനമുണ്ടാവില്ല. ജുമാസിൽ ഇളവുകൾ നൽകും. സെമീന്താർമാരുടെ അനന്തസ്തം അഭിമാനവും സംരക്ഷിക്കപ്പെടും. സെമീന്താർമാർക്ക് തങ്ങളുടെ ഭൂമിയിൽ പൂർണ്ണ അധികാരം ഉണ്ടായിരിക്കും .

ജർമ്മിമാരുടെ എന്തൊക്കെ ബുദ്ധിമുട്ടുകളും പ്രശ്നങ്ങളുമാണ് ഈ പ്രഖ്യാപനത്തിൽ ഉൾപ്പെടുത്തപ്പെടാതെ പോയത്?

1. ഭൂ നികുതി പരമാവധി കൂട്ടുന്നത്
2. സാമൂഹിക മാനുത നഷ്ടപ്പെടുന്നത്
3. ഭരണ സാമ്പത്തിക ബുദ്ധിമുട്ടുകൾ
4. ഗതാഗത വാർത്തവിനിമയ പിന്നോക്കാവസ്ഥ

Options :

- 485584146129. 1
- 485584146130. 2
- 485584146131. 3
- 485584146132. 4

Question Number : 149 Question Id : 48558436534 Question Type : MCQ Option Shuffling : No Is Question Mandatory : No Calculator : None Response Time : N.A Think Time : N.A Minimum Instruction Time : 0

Correct Marks : 5 Wrong Marks : 1

Question Key Details :

Key	Value
Comprehension	Comp2

Read the passage and answer the questions :

Section I - Regarding Zemindars. It is evident that the British Government in making zemindary settlement have imposed exorbitant *Jumars* (revenue demand) and have disgraced and ruined several Zemindars by putting up their estates for public auction for arrears of rent, in so much, in the institution of a suit by a common Ryot, a maid servant or a slave, the respectable Zemindars are summoned into court, arrested, put in goal and disgraced. In litigation regarding Zemindaries, the immense value of stamps, and other unnecessary expenses of the civil courts, ... are all calculated to impoverish the litigants. Besides this, the coffers of the Zemindars are annually taxed with the subscription for schools, hospitals, roads, etc. Such extortions will have no manner of existence in the Badshahi Government; but on the contrary the *Jumars* will be light, the dignity and honour of the Zemindars safe, and every Zemindar will have absolute rule in his own Zemindary...

The alternative rule of 'Badshahi Government' proposed by the rebels in this proclamation refers to _____

1. The rule of the king of England.
2. The royal nature of the company state.
3. The rule of India's traditional aristocratic class, such as of Bahadur Shah Zafar.
4. The rule established by the rebels based on the ordinary people of India.

Options :

- 485584146133. 1
- 485584146134. 2
- 485584146135. 3
- 485584146136. 4

Question Number : 149 Question Id : 48558436534 Question Type : MCQ Option Shuffling : No Is Question Mandatory : No Calculator : None Response Time : N.A Think Time : N.A Minimum Instruction Time : 0

Correct Marks : 5 Wrong Marks : 1

Question Key Details :

Key	Value
Comprehension	Comp2

സെക്ഷൻ 1- സെമീന്താർമാരുമായി ബന്ധപ്പെട്ട്

സെമീന്താർ സമ്പ്രദായം അവതരിപ്പിക്കുക വഴി ബ്രിട്ടീഷുകാർ വലിയ തോതിലുള്ള ഭൂനികുതിയാണ് (ജുമാസ്) ചുമത്തിയിരുന്നത് എന്നത് വ്യക്തമാണ്. ഏതെങ്കിലും തരത്തിൽ നികുതി അടക്കുന്നതിൽ വീഴ്ച വരുത്തുന്ന സെമീന്താർമാരുടെ ഭൂമി പരസ്യമായി ലേലം ചെയ്തിരുന്നു . ഏതെങ്കിലും സെമീന്താറുടെ അടിമയോ, സേവകയോ അയാൾക്കെതിരെ പരാതി നൽകുന്ന സാഹചര്യത്തിൽ അയാളെ കോടതിയിലേക്ക് വിളിച്ചു വരുത്തുകയും, തടവിലിടുകയും അത് വഴി അയാളെ അപമാനപ്പെടുത്തുകയും ചെയ്യാറുണ്ടായിരുന്നു. കോടതി വ്യവഹാരത്തിൽ പെടുന്ന സെമീന്താർമാർ കോടതി ചിലവുകൾ മൂലം പലപ്പോഴും ദരിദ്രർ ആകുമായിരുന്നു. ഇത് കൂടാതെ, സ്ത്രീകൾ , റോഡുകൾ , ആശുപത്രികൾ എന്നിവയുടെ ചിലവിലേക്കായി സെമീന്താർമാരുടെ കയ്യിൽ നിന്നും പണം ഈടാക്കിയിരുന്നു . ഇത്തരത്തിലുള്ള പണം ഈടാക്കലുകൾക്ക് ബാദ്ഷാഹി ഭരണത്തിൽ സ്ഥാനമുണ്ടാവില്ല. ജുമാസിൽ ഇളവുകൾ നൽകും. സെമീന്താർമാരുടെ അനന്തരവും അഭിമാനവും സംരക്ഷിക്കപ്പെടും. സെമീന്താർമാർക്ക് തങ്ങളുടെ ഭൂമിയിൽ പൂർണ്ണ അധികാരം ഉണ്ടായിരിക്കും .

പ്രതിഷേധക്കാരുടെ ഈ പ്രഖ്യാപനത്തിൽ പറയുന്ന ബാർഷാഹി ഗവണ്മെന്റ് ആരുടെ ഭരണത്തെ സൂചിപ്പിക്കുന്നു ?

1. ഇംഗ്ലണ്ടിലെ രാജാവിന്റെ ഭരണം.
2. കമ്പനിയുടെ രാജകീയ പ്രഭാവം.
3. ബഹിർഷാ സഫറിനെ പോലെയുള്ള പരമ്പരാഗത സമ്പന്നരുടെ ഭരണം.
4. സാധാരണക്കാരുടെ പ്രതിനിധികളായ പ്രതിഷേധക്കാരുടെ ഭരണം

Options :

- 485584146133. 1
- 485584146134. 2
- 485584146135. 3
- 485584146136. 4

Question Number : 150 Question Id : 48558436535 Question Type : MCQ Option Shuffling : No Is Question Mandatory : No Calculator : None Response Time : N.A Think Time : N.A Minimum Instruction Time : 0

Correct Marks : 5 Wrong Marks : 1

Question Key Details :

Key	Value
Comprehension	Comp2

Read the passage and answer the questions :

Section I - Regarding Zemindars. It is evident that the British Government in making zemindary settlement have imposed exorbitant *Jumas* (revenue demand) and have disgraced and ruined several Zemindars by putting up their estates for public auction for arrears of rent, in so much, in the institution of a suit by a common Ryot, a maid servant or a slave, the respectable Zemindars are summoned into court, arrested, put in goal and disgraced. In litigation regarding Zemindaries, the immense value of stamps, and other unnecessary expenses of the civil courts,... are all calculated to impoverish the litigants. Besides this, the coffers of the Zemindars are annually taxed with the subscription for schools, hospitals, roads, etc. Such extortions will have no manner of existence in the Badshahi Government; but on the contrary the *Jumar* will be light, the dignity and honour of the Zemindars safe, and every Zemindar will have absolute rule in his own Zemindary...

Loss of zamindari estates and public auction of the same, as mentioned in the Proclamation, was caused by_____.

1. War of succession with the British.
2. Military expedition of the company.
3. New land reserve settlements of the company.
4. Lack of competence and co-ordination on part of the zamindars.

Options :

- 485584146137. 1
- 485584146138. 2
- 485584146139. 3
- 485584146140. 4

Question Number : 150 Question Id : 48558436535 Question Type : MCQ Option Shuffling : No Is Question Mandatory : No Calculator : None Response Time : N.A Think Time : N.A Minimum Instruction Time : 0

Correct Marks : 5 Wrong Marks : 1

Question Key Details :

Key	Value
Comprehension	Comp2

സെക്ഷൻ 1- സെമീനാർമാരുമായി ബന്ധപ്പെട്ട്

സെമീനാർ സമ്പ്രദായം അവതരിപ്പിക്കുക വഴി ബ്രിട്ടീഷുകാർ വലിയ തോതിലുള്ള ഭൂമി കൃതിയാണ് (ജുമാസ്) ചുമത്തിയിരുന്നത് എന്നത് വ്യക്തമാണ്. ഏതെങ്കിലും തരത്തിൽ നികുതി അടയ്ക്കുന്നതിൽ വീഴ്ച വരുത്തുന്ന സെമീനാർമാരുടെ ഭൂമി പരസ്യമായി ലേലം ചെയ്തിരുന്നു. ഏതെങ്കിലും സെമീനാർമാരുടെ അടിമയോ, സേവകയോ അയാൾക്കെതിരെ പരാതി നൽകുന്ന സാഹചര്യത്തിൽ അയാളെ കോടതിയിലേക്ക് വിളിച്ചു വരുത്തുകയും, തടവിലിടുകയും അത് വഴി അയാളെ അപമാനപ്പെടുത്തുകയും ചെയ്യാറുണ്ടായിരുന്നു. കോടതി വ്യവഹാരത്തിൽ പെടുന്ന സെമീനാർമാർ കോടതി ചിലവുകൾ മൂലം പലപ്പോഴും ദരിദ്രർ ആകുമായിരുന്നു. ഇത് കൂടാതെ, സ്ത്രീകൾ, റോഡുകൾ, ആശുപത്രികൾ എന്നിവയുടെ ചിലവിലേക്കായി സെമീനാർമാരുടെ കയ്യിൽ നിന്നും പണം ഈടാക്കിയിരുന്നു. ഇത്തരത്തിലുള്ള പണം ഈടാക്കലുകൾക്ക് ബാറേഷാഹി ഭരണത്തിൽ സ്ഥാനമുണ്ടാവില്ല. ജുമാസിൽ ഇളവുകൾ നൽകും. സെമീനാർമാരുടെ അനന്തരം അഭിമാനവും സംരക്ഷിക്കപ്പെടും. സെമീനാർമാർക്ക് തങ്ങളുടെ ഭൂമിയിൽ പൂർണ്ണ അധികാരം ഉണ്ടായിരിക്കും.

സെമീനാർമാരുടെ ഭൂമി പരസ്യമായി ലേലം ചെയ്യപ്പെട്ടത് എന്തു സാഹചര്യത്തിലായിരുന്നു ?

- 1. ബ്രിട്ടീഷുകാരുമായി ഉണ്ടായ പിൻതുടർച്ചാ തർക്കങ്ങളെ തുടർന്ന്
- 2. കമ്പനിയുടെ പട്ടാള അധിനിവേശത്തെത്തുടർന്ന്
- 3. കമ്പനിയുടെ പുതിയ ഭൂമി കൃതി നിർദ്ദേശത്തെത്തുടർന്ന്
- 4. ജർമ്മിമാർക്കിടയിൽ കാര്യക്ഷമതയും സഹകരണവും ഇല്ലാത്തതിനെ തുടർന്ന്

Options :

- 485584146137. 1
- 485584146138. 2
- 485584146139. 3
- 485584146140. 4

Home Science

Group Number :	5
Group Id :	485584825
Group Maximum Duration :	45
Group Minimum Duration :	45
Show Attended Group? :	No
Edit Attended Group? :	No
Break time :	0
Group Marks :	200
Is this Group for Examiner? :	No
Examiner permission :	Cant View
Show Progress Bar? :	No

Home Science

Section Id :	485584949
Section Number :	1
Section type :	Online
Mandatory or Optional :	Mandatory
Number of Questions :	50
Number of Questions to be attempted :	40
Section Marks :	200

Enable Mark as Answered Mark for Review and Clear Response : Yes
Maximum Instruction Time : 0
Sub-Section Number : 1
Sub-Section Id : 4855842699
Question Shuffling Allowed : Yes
Is Section Default? : null

Question Number : 151 Question Id : 48558436536 Question Type : MCQ Option Shuffling : No Is Question Mandatory : No Calculator : None
Response Time : N.A Think Time : N.A Minimum Instruction Time : 0

Correct Marks : 5 Wrong Marks : 1

Question Key Details :

Key	Value
Comprehension	MCQ

The Persons with Disabilities Act was passed in which year?

1. 1995
2. 1996
3. 2000
4. 1998

Options :

- 485584146141. 1
- 485584146142. 2
- 485584146143. 3
- 485584146144. 4

Question Number : 151 Question Id : 48558436536 Question Type : MCQ Option Shuffling : No Is Question Mandatory : No Calculator : None
Response Time : N.A Think Time : N.A Minimum Instruction Time : 0

Correct Marks : 5 Wrong Marks : 1

Question Key Details :

Key	Value
Comprehension	MCQ

ഒരു പട്ടികയിൽ വിവിധ വർഷങ്ങളിൽ അടയ്ക്കിയ നികുതികളുടെ വരവ് വർഷം ഏത്?

1. 1995
2. 1996
3. 2000
4. 1998

Options :

- 485584146141. 1
- 485584146142. 2
- 485584146143. 3
- 485584146144. 4

Question Number : 152 Question Id : 48558436537 Question Type : MCQ Option Shuffling : No Is Question Mandatory : No Calculator : None
Response Time : N.A Think Time : N.A Minimum Instruction Time : 0

Correct Marks : 5 Wrong Marks : 1

Question Key Details :

Key	Value
Comprehension	MCQ

The causes of disability in children can be grouped into three categories which are:

- A. Factors that impinge on the child during development
- B. Factors due to school education
- C. Factors that affect before birth, both genetic and non-genetic
- D. Factors that affect the child at birth or soon after birth

Choose the correct answer from the options given below:

- 1. A, C and D only
- 2. A, B and C only
- 3. B, C and D only
- 4. A, B and D only

Options :

- 485584146145. 1
- 485584146146. 2
- 485584146147. 3
- 485584146148. 4

Question Number : 152 Question Id : 48558436537 Question Type : MCQ Option Shuffling : No Is Question Mandatory : No Calculator : None Response Time : N.A Think Time : N.A Minimum Instruction Time : 0

Correct Marks : 5 Wrong Marks : 1

Question Key Details :

Key	Value
Comprehension	MCQ

കുട്ടികൾക്കുണ്ടാകുന്ന വൈകല്യങ്ങൾക്കുള്ള കാരണങ്ങൾ മൂന്നായി തരംതിരിക്കാം.

- A. വളർച്ചയുടെ സമയത്ത് ബാധിക്കുന്ന ഘടകങ്ങൾ
- B. സ്കൂൾ വിദ്യാഭ്യാസവുമായി ബന്ധപ്പെട്ട ഘടകങ്ങൾ
- C. ജനത്തിനു മുമ്പേ തന്നെ കുട്ടിയെ ബാധിക്കാനിടയുള്ള ജനിതക-ജനിതകേതര ഘടകങ്ങൾ
- D. ജനന സമയത്തോ അതിനോട് അനുബന്ധിച്ച് പിന്നോടോ ഉള്ളവ

താഴെ തന്നിരിക്കുന്ന ഓപ്ഷനുകളിൽ നിന്നും ശരിയുത്തരം തിരഞ്ഞെടുക്കുക:

- 1. A, C, D മാത്രം
- 2. A, B, C മാത്രം
- 3. B, C, D മാത്രം
- 4. A, B, D മാത്രം

Options :

- 485584146145. 1
- 485584146146. 2
- 485584146147. 3
- 485584146148. 4

Question Number : 153 Question Id : 48558436538 Question Type : MCQ Option Shuffling : No Is Question Mandatory : No Calculator : None Response Time : N.A Think Time : N.A Minimum Instruction Time : 0

Correct Marks : 5 Wrong Marks : 1

Question Key Details :

Key	Value
Comprehension	MCQ

_____ is the basic unit of society which looks after its members.

1. School
2. Family
3. Neighbour
4. Friends

Options :

485584146149. 1
485584146150. 2
485584146151. 3
485584146152. 4

Question Number : 153 Question Id : 48558436538 Question Type : MCQ Option Shuffling : No Is Question Mandatory : No Calculator : None Response Time : N.A Think Time : N.A Minimum Instruction Time : 0

Correct Marks : 5 Wrong Marks : 1

Question Key Details :

Key	Value
Comprehension	MCQ

അംഗങ്ങളെ പരിപാലിക്കുന്ന, സമൂഹത്തിന്റെ അടിസ്ഥാന യൂണിറ്റ് ആണ് _____ .

1. സ്കൂൾ
2. കുടുംബം
3. അയൽക്കാരി
4. സുഹൃത്തുക്കൾ

Options :

485584146149. 1
485584146150. 2
485584146151. 3
485584146152. 4

Question Number : 154 Question Id : 48558436539 Question Type : MCQ Option Shuffling : No Is Question Mandatory : No Calculator : None Response Time : N.A Think Time : N.A Minimum Instruction Time : 0

Correct Marks : 5 Wrong Marks : 1

Question Key Details :

Key	Value
Comprehension	MCQ

In India, a senior citizen is a person belonging to which of the following age group?

1. 65 years and above
2. 60 years and above
3. 70 years and above
4. 80 years and above

Options :

485584146153. 1
485584146154. 2
485584146155. 3
485584146156. 4

Question Number : 154 Question Id : 48558436539 Question Type : MCQ Option Shuffling : No Is Question Mandatory : No Calculator : None Response Time : N.A Think Time : N.A Minimum Instruction Time : 0

Correct Marks : 5 Wrong Marks : 1

Question Key Details :

Key	Value
Comprehension	MCQ

താഴെ കൊടുത്തിട്ടുള്ളതിൽ ഏത് പ്രായപരിധിയിൽ പെടുന്ന ആളെയാണ് ഇന്ത്യയിൽ 'മുതിർന്ന പൗരനായി' കണക്കാക്കുന്നത്?

1. 65 വയസ്സും അതിനു മുകളിലും
2. 60 വയസ്സും അതിനു മുകളിലും
3. 70 വയസ്സും അതിനു മുകളിലും
4. 80 വയസ്സും അതിനു മുകളിലും

Options :

- 485584146153. 1
- 485584146154. 2
- 485584146155. 3
- 485584146156. 4

Question Number : 155 Question Id : 48558436540 Question Type : MCQ Option Shuffling : No Is Question Mandatory : No Calculator : None Response Time : N.A Think Time : N.A Minimum Instruction Time : 0

Correct Marks : 5 Wrong Marks : 1

Question Key Details :

Key	Value
Comprehension	MCQ

In which year, Ministry of Youth Affairs and Sports adopted the National Youth Policy?

1. 2005
2. 2003
3. 2004
4. 2010

Options :

- 485584146157. 1
- 485584146158. 2
- 485584146159. 3
- 485584146160. 4

Question Number : 155 Question Id : 48558436540 Question Type : MCQ Option Shuffling : No Is Question Mandatory : No Calculator : None Response Time : N.A Think Time : N.A Minimum Instruction Time : 0

Correct Marks : 5 Wrong Marks : 1

Question Key Details :

Key	Value
Comprehension	MCQ

ഇന്ത്യയിൽ യുവജന-കായിക മത്സരലയം രാഷ്ട്രീയ യുവജന വയം കൈകൊണ്ടു വർദ്ധിച്ചു എന്ന്?

- 1. 2005
- 2. 2003
- 3. 2004
- 4. 2010

Options :

- 485584146157. 1
- 485584146158. 2
- 485584146159. 3
- 485584146160. 4

Question Number : 156 Question Id : 48558436541 Question Type : MCQ Option Shuffling : No Is Question Mandatory : No Calculator : None Response Time : N.A Think Time : N.A Minimum Instruction Time : 0

Correct Marks : 5 Wrong Marks : 1

Question Key Details :

Key	Value
Comprehension	MCQ

Name the psychologist who outlined the great need that children have for a concerned, caring and knowledgeable adult.

- 1. Piaget
- 2. Freud
- 3. Vygotsky
- 4. Bruner

Options :

- 485584146161. 1
- 485584146162. 2
- 485584146163. 3
- 485584146164. 4

Question Number : 156 Question Id : 48558436541 Question Type : MCQ Option Shuffling : No Is Question Mandatory : No Calculator : None Response Time : N.A Think Time : N.A Minimum Instruction Time : 0

Correct Marks : 5 Wrong Marks : 1

Question Key Details :

Key	Value
Comprehension	MCQ

അറിവും പരിഗണനയും ശ്രദ്ധയും ഉള്ള ഒരു മുതിർന്നയാളുടെ സാമീപ്യം കുട്ടിക്ക് അത്യാവശ്യമാണെന്ന് ചൂണ്ടിക്കാണിച്ച മനശ്ശാസ്ത്രജ്ഞൻ ആരാണ്?

- 1. പിയാജെ
- 2. ഫ്രോയഡ്
- 3. വൈഗോട്സ്കി
- 4. ബ്രൂണർ

Options :

- 485584146161. 1
- 485584146162. 2
- 485584146163. 3

485584146164. 4

Question Number : 157 Question Id : 48558436542 Question Type : MCQ Option Shuffling : No Is Question Mandatory : No Calculator : None
Response Time : N.A Think Time : N.A Minimum Instruction Time : 0
Correct Marks : 5 Wrong Marks : 1

Question Key Details :

Key	Value
Comprehension	MCQ

Identify the given standardisation mark.



1. ISI
2. FPO
3. AGMARK
4. Hallmark

Options :

485584146165. 1
485584146166. 2
485584146167. 3
485584146168. 4

Question Number : 157 Question Id : 48558436542 Question Type : MCQ Option Shuffling : No Is Question Mandatory : No Calculator : None
Response Time : N.A Think Time : N.A Minimum Instruction Time : 0

Correct Marks : 5 Wrong Marks : 1

Question Key Details :

Key	Value
Comprehension	MCQ

തന്നിരിക്കുന്ന അടയാളം ഏതിന്റേതാണ്?



1. ISI
2. FPO
3. AGMARK
4. ഹാൾമാർക്ക്

Options :

- 485584146165. 1
- 485584146166. 2
- 485584146167. 3
- 485584146168. 4

Question Number : 158 Question Id : 48558436543 Question Type : MCQ Option Shuffling : No Is Question Mandatory : No Calculator : None Response Time : N.A Think Time : N.A Minimum Instruction Time : 0

Correct Marks : 5 Wrong Marks : 1

Question Key Details :

Key	Value
Comprehension	MCQ

A process through which buyer makes decisions about purchasing is known as _____.

- 1. Consumer behaviour
- 2. Consumer right
- 3. Consumer footfall
- 4. Consumer expectation

Options :

- 485584146169. 1
- 485584146170. 2
- 485584146171. 3
- 485584146172. 4

Question Number : 158 Question Id : 48558436543 Question Type : MCQ Option Shuffling : No Is Question Mandatory : No Calculator : None Response Time : N.A Think Time : N.A Minimum Instruction Time : 0

Correct Marks : 5 Wrong Marks : 1

Question Key Details :

Key	Value
Comprehension	MCQ

ഒരാൾ ഒരു സാധനം വാങ്ങുന്നതിനെക്കുറിച്ച് തീരുമാനം എടുക്കുന്ന പ്രക്രിയ അറിയപ്പെടുന്നത്:-

- 1. ഉപഭോക്തൃ പെരുമാറ്റം
- 2. ഉപഭോക്താവിന്റെ അവകാശം
- 3. കൺസ്യൂമർ ഫുട്ഫോൾ
- 4. ഉപഭോക്താവിന്റെ പ്രതീക്ഷ

Options :

- 485584146169. 1
- 485584146170. 2
- 485584146171. 3
- 485584146172. 4

Question Number : 159 Question Id : 48558436544 Question Type : MCQ Option Shuffling : No Is Question Mandatory : No Calculator : None Response Time : N.A Think Time : N.A Minimum Instruction Time : 0

Correct Marks : 5 Wrong Marks : 1

Question Key Details :

Key	Value
Comprehension	MCQ

Which of the following is a tool to empower and equip consumers to protect themselves from adverse market forces ?

1. Consumer education
2. Consumer problems
3. Consumer behaviour
4. Consumer responsibility

Options :

- 485584146173. 1
- 485584146174. 2
- 485584146175. 3
- 485584146176. 4

Question Number : 159 Question Id : 48558436544 Question Type : MCQ Option Shuffling : No Is Question Mandatory : No Calculator : None Response Time : N.A Think Time : N.A Minimum Instruction Time : 0

Correct Marks : 5 Wrong Marks : 1

Question Key Details :

Key	Value
Comprehension	MCQ

വിപണിയിലെ പ്രതിലോമ ശക്തികളിൽ നിന്ന് സ്വയം രക്ഷ നേടുന്നതിന് ഉപഭോക്താവിനെ ശക്തനാക്കുകയും സജ്ജമാക്കുകയും ചെയ്യുന്നത് എന്ത്:-

1. ഉപഭോക്തൃ വിദ്യാഭ്യാസം
2. ഉപഭോക്തൃ പ്രശ്നങ്ങൾ
3. ഉപഭോക്തൃ പെരുമാറ്റം
4. ഉപഭോക്തൃ ഉത്തരവാദിത്തം

Options :

- 485584146173. 1
- 485584146174. 2
- 485584146175. 3
- 485584146176. 4

Question Number : 160 Question Id : 48558436545 Question Type : MCQ Option Shuffling : No Is Question Mandatory : No Calculator : None Response Time : N.A Think Time : N.A Minimum Instruction Time : 0

Correct Marks : 5 Wrong Marks : 1

Question Key Details :

Key	Value
Comprehension	MCQ

What is the other name for short lived fashion?

1. Fad
2. Classic
3. Style
4. Design

Options :

- 485584146177. 1
- 485584146178. 2
- 485584146179. 3
- 485584146180. 4

Question Number : 160 Question Id : 48558436545 Question Type : MCQ Option Shuffling : No Is Question Mandatory : No Calculator : None Response Time : N.A Think Time : N.A Minimum Instruction Time : 0

Correct Marks : 5 Wrong Marks : 1

Question Key Details :

Key	Value
Comprehension	MCQ

ചുരുങ്ങിയ കാലത്തേക്കു മാത്രം പ്രചാരത്തിലിരിക്കുന്ന ഫാഷൻ അറിയപ്പെടുന്നത്:-

1. ഫാഡ്
2. ക്ലാസിക്
3. സ്റ്റേറ്റ്
4. ഫാഷൻ

Options :

- 485584146177. 1
- 485584146178. 2
- 485584146179. 3
- 485584146180. 4

Question Number : 161 Question Id : 48558436546 Question Type : MCQ Option Shuffling : No Is Question Mandatory : No Calculator : None Response Time : N.A Think Time : N.A Minimum Instruction Time : 0

Correct Marks : 5 Wrong Marks : 1

Question Key Details :

Key	Value
Comprehension	MCQ

You have to purchase a dress for your sister who is tall and slim. Inclusion of which of the following will be appropriate for her?

1. Vertical lines
2. Horizontal lines
3. Dark colours
4. High waist bodice

Options :

- 485584146181. 1
- 485584146182. 2
- 485584146183. 3
- 485584146184. 4

Question Number : 161 Question Id : 48558436546 Question Type : MCQ Option Shuffling : No Is Question Mandatory : No Calculator : None Response Time : N.A Think Time : N.A Minimum Instruction Time : 0

Correct Marks : 5 Wrong Marks : 1

Question Key Details :

Key	Value
Comprehension	MCQ

നീണ്ടു മെലിഞ്ഞ നിങ്ങളുടെ സഹോദരിയെ വേണ്ടി നിങ്ങൾക്ക് ഒരു വസ്ത്രം വാങ്ങണം. താഴെ കൊടുത്തിട്ടുള്ളതിൽ അവൾക്ക് ഏറ്റവും അനുയോജ്യമായത് ഏത്?

1. മുകളിൽ നിന്ന് താഴെക്ക് വരുകൾ ഉള്ളത് (ലംബം)
2. ഒരു വശത്തു നിന്ന് മറ്റൊരു വശത്തേക്ക് വരുകൾ ഉള്ളത് (തീരശീനം)
3. ഇരുണ്ട നിറമുള്ളത്
4. ഹൈ വെയിറ്റ് ബോഡീസ്

Options :

- 485584146181. 1
- 485584146182. 2
- 485584146183. 3
- 485584146184. 4

Question Number : 162 Question Id : 48558436547 Question Type : MCQ Option Shuffling : No Is Question Mandatory : No Calculator : None Response Time : N.A Think Time : N.A Minimum Instruction Time : 0

Correct Marks : 5 Wrong Marks : 1

Question Key Details :

Key	Value
Comprehension	MCQ

_____ ability requires a thorough knowledge of past future trends and current future trends.

1. Analytical
2. Forecasting
3. Communication
4. Technical

Options :

- 485584146185. 1
- 485584146186. 2
- 485584146187. 3
- 485584146188. 4

Question Number : 162 Question Id : 48558436547 Question Type : MCQ Option Shuffling : No Is Question Mandatory : No Calculator : None Response Time : N.A Think Time : N.A Minimum Instruction Time : 0

Correct Marks : 5 Wrong Marks : 1

Question Key Details :

Key	Value
Comprehension	MCQ

ഭാവി, ഭൂത, വർത്തമാന കാല പ്രവണതകളെ കുറിച്ചുള്ള നല്ല അറിവ് ഏത് കഴിവിന് അനിവാരമാണ്?

1. വിശകലനം
2. പ്രവചനം
3. ആശയവിനിമയം
4. സാങ്കേതികം

Options :

- 485584146185. 1
- 485584146186. 2

485584146187. 3
485584146188. 4

Question Number : 163 Question Id : 48558436548 Question Type : MCQ Option Shuffling : No Is Question Mandatory : No Calculator : None
Response Time : N.A Think Time : N.A Minimum Instruction Time : 0

Correct Marks : 5 Wrong Marks : 1

Question Key Details :

Key	Value
Comprehension	MCQ

_____ is the important phase in wash cycle. If it is not done properly, clothes may look grey, dull with harsh texture.

1. Water extraction
2. Rinsing
3. Drying
4. Pressing

Options :

- 485584146189. 1
- 485584146190. 2
- 485584146191. 3
- 485584146192. 4

Question Number : 163 Question Id : 48558436548 Question Type : MCQ Option Shuffling : No Is Question Mandatory : No Calculator : None
Response Time : N.A Think Time : N.A Minimum Instruction Time : 0

Correct Marks : 5 Wrong Marks : 1

Question Key Details :

Key	Value
Comprehension	MCQ

താഴെ തന്നിട്ടുള്ളതിൽ അലക്കൽ പ്രക്രിയകളിൽ ഒന്നിന്റെ അഭാവത്തിൽ വസ്ത്രങ്ങൾ നരച്ചതായും നിറം മങ്ങിയതായും പരുക്കനായും കാണപ്പെടും. അത് തിരുത്തേണ്ടതുകൊണ്ട്.

1. പിഴിയുക
2. ശുദ്ധവെള്ളത്തിൽ കഴുകുക
3. ഉണക്കുക
4. ഇമ്പിരിയിടുക

Options :

- 485584146189. 1
- 485584146190. 2
- 485584146191. 3
- 485584146192. 4

Question Number : 164 Question Id : 48558436549 Question Type : MCQ Option Shuffling : No Is Question Mandatory : No Calculator : None
Response Time : N.A Think Time : N.A Minimum Instruction Time : 0

Correct Marks : 5 Wrong Marks : 1

Question Key Details :

Key	Value
Comprehension	MCQ

Which of the following colour scheme refers to a colour combination using two or three hues that lie side by side on the colour wheel?

1. Achromatic harmony
2. Accented neutral
3. Analogous harmony
4. Complementary harmony

Options :

- 485584146193. 1
- 485584146194. 2
- 485584146195. 3
- 485584146196. 4

Question Number : 164 Question Id : 48558436549 Question Type : MCQ Option Shuffling : No Is Question Mandatory : No Calculator : None Response Time : N.A Think Time : N.A Minimum Instruction Time : 0

Correct Marks : 5 Wrong Marks : 1

Question Key Details :

Key	Value
Comprehension	MCQ

നിറ ചക്രത്തിൽ അടുത്തടുത്തായി സ്ഥിതി ചെയ്യുന്ന രണ്ടോ മൂന്നോ നിറങ്ങൾ ചേർത്തുണ്ടാക്കുന്ന കുളർ സ്കീമിന് പറയുന്നത്:-

1. അക്രോമാറ്റിക് ഹാർമണി
2. ആക്സന്റഡ് ന്യൂട്രൽ
3. അനലോഗസ് ഹാർമണി
4. കോംപ്ലിമെന്ററി ഹാർമണി

Options :

- 485584146193. 1
- 485584146194. 2
- 485584146195. 3
- 485584146196. 4

Question Number : 165 Question Id : 48558436550 Question Type : MCQ Option Shuffling : No Is Question Mandatory : No Calculator : None Response Time : N.A Think Time : N.A Minimum Instruction Time : 0

Correct Marks : 5 Wrong Marks : 1

Question Key Details :

Key	Value
Comprehension	MCQ

The term "Development Communication" was first coined by Quebral in which year?

1. 1969
2. 1970
3. 1972
4. 1974

Options :

- 485584146197. 1
- 485584146198. 2
- 485584146199. 3
- 485584146200. 4

Question Number : 165 Question Id : 48558436550 Question Type : MCQ Option Shuffling : No Is Question Mandatory : No Calculator : None Response Time : N.A Think Time : N.A Minimum Instruction Time : 0

Correct Marks : 5 Wrong Marks : 1

Question Key Details :

Key	Value
Comprehension	MCQ

കുടുംബങ്ങൾ 'ഡെവലപ്മെന്റ് കമ്മ്യൂണിറ്റികൾ' എന്ന പദം ആദ്യമായി പ്രയോഗിച്ച വർഷം ഏത്?

1. 1969
2. 1970
3. 1972
4. 1974

Options :

- 485584146197. 1
- 485584146198. 2
- 485584146199. 3
- 485584146200. 4

Question Number : 166 Question Id : 48558436551 Question Type : MCQ Option Shuffling : No Is Question Mandatory : No Calculator : None Response Time : N.A Think Time : N.A Minimum Instruction Time : 0

Correct Marks : 5 Wrong Marks : 1

Question Key Details :

Key	Value
Comprehension	MCQ

To create focused attention on a small village in Delhi, the Project village Chattera was started in 1969. Which newspaper was involved in this project?

1. The Times of India
2. The Hindustan Times
3. Navbharat times
4. The Hindu

Options :

- 485584146201. 1
- 485584146202. 2
- 485584146203. 3
- 485584146204. 4

Question Number : 166 Question Id : 48558436551 Question Type : MCQ Option Shuffling : No Is Question Mandatory : No Calculator : None Response Time : N.A Think Time : N.A Minimum Instruction Time : 0

Correct Marks : 5 Wrong Marks : 1

Question Key Details :

Key	Value
Comprehension	MCQ

1969-ൽ ഡൽഹിയിൽ ആരംഭിച്ച പ്രൊജക്ട് വില്ലേജ് ചട്ടേരയുമായി ബന്ധപ്പെട്ട വർത്തമാന പത്രം ഏത്?

- 1. ദ ടൈംസ് ഒഫ് ഇന്ത്യ
- 2. ദ ഹിന്ദുസ്ഥാൻ ടൈംസ്
- 3. നവഭാരത് ടൈംസ്
- 4. ദ ഹിന്ദു

Options :

- 485584146201. 1
- 485584146202. 2
- 485584146203. 3
- 485584146204. 4

Question Number : 167 Question Id : 48558436552 Question Type : MCQ Option Shuffling : No Is Question Mandatory : No Calculator : None Response Time : N.A Think Time : N.A Minimum Instruction Time : 0

Correct Marks : 5 Wrong Marks : 1

Question Key Details :

Key	Value
Comprehension	MCQ

In which of the following disease condition, low fibre diet is recommended?

- 1. Diarrhoea
- 2. Constipation
- 3. Diabetes
- 4. Heart disease

Options :

- 485584146205. 1
- 485584146206. 2
- 485584146207. 3
- 485584146208. 4

Question Number : 167 Question Id : 48558436552 Question Type : MCQ Option Shuffling : No Is Question Mandatory : No Calculator : None Response Time : N.A Think Time : N.A Minimum Instruction Time : 0

Correct Marks : 5 Wrong Marks : 1

Question Key Details :

Key	Value
Comprehension	MCQ

താഴെ കൊടുത്തിട്ടുള്ളതിൽ ഏത് രോഗാവസ്ഥയിലാണ് നാരുകൾ കുറഞ്ഞ ഭക്ഷണക്രമം ശുപാർശ ചെയ്യപ്പെടുന്നത്?

- 1. വയറിളക്കം
- 2. മലബന്ധം
- 3. പ്രമേഹം
- 4. ഹൃദ്രോഗം

Options :

- 485584146205. 1
- 485584146206. 2
- 485584146207. 3

485584146208. 4

Question Number : 168 Question Id : 48558436553 Question Type : MCQ Option Shuffling : No Is Question Mandatory : No Calculator : None
Response Time : N.A Think Time : N.A Minimum Instruction Time : 0

Correct Marks : 5 Wrong Marks : 1

Question Key Details :

Key	Value
Comprehension	MCQ

Which of the following is a welfare catering service ?

1. Holiday camps
2. Langar
3. Clubs
4. Flight kitchens

Options :

- 485584146209. 1
- 485584146210. 2
- 485584146211. 3
- 485584146212. 4

Question Number : 168 Question Id : 48558436553 Question Type : MCQ Option Shuffling : No Is Question Mandatory : No Calculator : None
Response Time : N.A Think Time : N.A Minimum Instruction Time : 0

Correct Marks : 5 Wrong Marks : 1

Question Key Details :

Key	Value
Comprehension	MCQ

താഴെ കൊടുത്തിട്ടുള്ളതിൽ സൗജന്യ കേറ്ററിംഗ് സർവീസ് ഏത്?

1. ഹോളിഡേ ക്യാമ്പ്
2. ലംഗാർ
3. ക്ലബ്ബ്
4. ഫ്ലൈറ്റ് കിച്ചൻസ്

Options :

- 485584146209. 1
- 485584146210. 2
- 485584146211. 3
- 485584146212. 4

Question Number : 169 Question Id : 48558436554 Question Type : MCQ Option Shuffling : No Is Question Mandatory : No Calculator : None
Response Time : N.A Think Time : N.A Minimum Instruction Time : 0

Correct Marks : 5 Wrong Marks : 1

Question Key Details :

Key	Value
Comprehension	MCQ

Which of these is NOT a feature of GMP (Good Manufacturing Practice)?

1. Minimise false labelling
2. Consumer education
3. Eliminate contamination
4. Mislead consumer

Options :

- 485584146213. 1
- 485584146214. 2
- 485584146215. 3
- 485584146216. 4

Question Number : 169 Question Id : 48558436554 Question Type : MCQ Option Shuffling : No Is Question Mandatory : No Calculator : None Response Time : N.A Think Time : N.A Minimum Instruction Time : 0

Correct Marks : 5 Wrong Marks : 1

Question Key Details :

Key	Value
Comprehension	MCQ

താഴെ കൊടുത്തിട്ടുള്ളവയിൽ ജീനറേഷിയുടെ സവിശേഷത അല്ലാത്തത് ഏത്?

1. തെറ്റായ ലേബലിംഗ് പരാമാവധി കുറയ്ക്കുക
2. ഉപഭോക്തൃ വിദ്യാഭ്യാസം
3. മലിനീകരണം ഉന്മൂലനം ചെയ്യൽ
4. ഉപഭോക്താവിനെ വഴിതെറ്റിക്കൽ

Options :

- 485584146213. 1
- 485584146214. 2
- 485584146215. 3
- 485584146216. 4

Question Number : 170 Question Id : 48558436555 Question Type : MCQ Option Shuffling : No Is Question Mandatory : No Calculator : None Response Time : N.A Think Time : N.A Minimum Instruction Time : 0

Correct Marks : 5 Wrong Marks : 1

Question Key Details :

Key	Value
Comprehension	MCQ

In the context of food standards regulations, which of the following is an international reference for quality management of an organisation?

1. ISO 6000
2. ISO 7000
3. ISO 8000
4. ISO 9000

Options :

- 485584146217. 1
- 485584146218. 2
- 485584146219. 3
- 485584146220. 4

Question Number : 170 Question Id : 48558436555 Question Type : MCQ Option Shuffling : No Is Question Mandatory : No Calculator : None Response Time : N.A Think Time : N.A Minimum Instruction Time : 0

Correct Marks : 5 Wrong Marks : 1

Question Key Details :

Key	Value
Comprehension	MCQ

താഴെ തന്നിട്ടുള്ളവയിൽ ഭക്ഷ്യ സുരക്ഷാ മാനദണ്ഡങ്ങളുമായി ബന്ധപ്പെട്ട ഒരു സ്ഥാപനത്തിന്റെ കാര്യക്ഷമത തിട്ടപ്പെടുത്തുന്നതിനുള്ള അന്താരാഷ്ട്ര മാനദണ്ഡം ഏത്?

1. ISO 6000
2. ISO 7000
3. ISO 8000
4. ISO 9000

Options :

- 485584146217. 1
- 485584146218. 2
- 485584146219. 3
- 485584146220. 4

Question Number : 171 Question Id : 48558436556 Question Type : MCQ Option Shuffling : No Is Question Mandatory : No Calculator : None Response Time : N.A Think Time : N.A Minimum Instruction Time : 0

Correct Marks : 5 Wrong Marks : 1

Question Key Details :

Key	Value
Comprehension	MCQ

In the context of food safety, intentional or accidental addition of impure ingredients that alters the properties and diminishes the quality of food is known as _____.

1. Contamination
2. Toxicity
3. Adulteration
4. Hazard

Options :

- 485584146221. 1
- 485584146222. 2
- 485584146223. 3
- 485584146224. 4

Question Number : 171 Question Id : 48558436556 Question Type : MCQ Option Shuffling : No Is Question Mandatory : No Calculator : None Response Time : N.A Think Time : N.A Minimum Instruction Time : 0

Correct Marks : 5 Wrong Marks : 1

Question Key Details :

Key	Value
Comprehension	MCQ

ഭക്ഷ്യ സുരക്ഷയുമായി ബന്ധപ്പെട്ട്, ഭക്ഷണത്തിന്റെ ഗുണനിലവാരം കുറയ്ക്കുന്ന രീതിയിൽ, ബോധപൂർവ്വമോ യാദൃശ്ചികമായോ അതിൽ മലിനമായ വസ്തുക്കൾ ചേർക്കുന്നതിന് പറയുന്നത്:-

1. മലിനമാക്കൽ
2. വിഷലിപ്തം
3. മായം ചേർക്കൽ
4. അപകടകരം

Options :

- 485584146221. 1
- 485584146222. 2
- 485584146223. 3
- 485584146224. 4

Question Number : 172 Question Id : 48558436557 Question Type : MCQ Option Shuffling : No Is Question Mandatory : No Calculator : None Response Time : N.A Think Time : N.A Minimum Instruction Time : 0

Correct Marks : 5 Wrong Marks : 1

Question Key Details :

Key	Value
Comprehension	MCQ

Fortification as an intervention is used under which of the following strategies to combat public nutrition problems ?

1. Nutrient based strategy
2. Medicinal strategy
3. Diet based strategy
4. Supplement based strategy

Options :

- 485584146225. 1
- 485584146226. 2
- 485584146227. 3
- 485584146228. 4

Question Number : 172 Question Id : 48558436557 Question Type : MCQ Option Shuffling : No Is Question Mandatory : No Calculator : None Response Time : N.A Think Time : N.A Minimum Instruction Time : 0

Correct Marks : 5 Wrong Marks : 1

Question Key Details :

Key	Value
Comprehension	MCQ

പൊതുവേ പോഷകപ്രശ്നങ്ങൾ നേരിടുന്നതിന് താഴെ കൊടുത്തിട്ടുള്ളവയിൽ ഏത് മാർഗത്തിന്റെ ഭാഗമായാണ് 'ഫോർട്ടിഫിക്കേഷൻ' എന്ന രീതി ഉപയോഗപ്പെടുത്തുന്നത്?

1. പോഷക ഘടകം അടിസ്ഥാനമാക്കിയുള്ള മാർഗം
2. മരുന്ന് അടിസ്ഥാനമാക്കിയുള്ള മാർഗം
3. ഭക്ഷണക്രമം അടിസ്ഥാനമാക്കിയുള്ള മാർഗം
4. പൂരകം അടിസ്ഥാനമാക്കിയുള്ള മാർഗം

Options :

485584146225. 1
485584146226. 2
485584146227. 3
485584146228. 4

Question Number : 173 Question Id : 48558436558 Question Type : MCQ Option Shuffling : No Is Question Mandatory : No Calculator : None
Response Time : N.A Think Time : N.A Minimum Instruction Time : 0

Correct Marks : 5 Wrong Marks : 1

Question Key Details :

Key	Value
Comprehension	MCQ

Which of the following is referred to as "Hidden Hunger" in the context of nutritional problems?

1. Micronutrient deficiencies
2. Malnutrition
3. Stunting
4. Wasting

Options :

485584146229. 1
485584146230. 2
485584146231. 3
485584146232. 4

Question Number : 173 Question Id : 48558436558 Question Type : MCQ Option Shuffling : No Is Question Mandatory : No Calculator : None
Response Time : N.A Think Time : N.A Minimum Instruction Time : 0

Correct Marks : 5 Wrong Marks : 1

Question Key Details :

Key	Value
Comprehension	MCQ

പോഷക പ്രശ്നങ്ങളുമായി ബന്ധപ്പെട്ട് 'ഹിഡൻ ഹംഗർ' എന്ന് അറിയപ്പെടുന്നത് എന്ത്?

1. സൂക്ഷ്മ പോഷക ഘടകങ്ങളുടെ കുറവ്
2. പോഷകഹീനത
3. മുരടിപ്പ്
4. ക്ഷയം

Options :

485584146229. 1
485584146230. 2
485584146231. 3
485584146232. 4

Question Number : 174 Question Id : 48558436559 Question Type : MCQ Option Shuffling : No Is Question Mandatory : No Calculator : None
Response Time : N.A Think Time : N.A Minimum Instruction Time : 0

Correct Marks : 5 Wrong Marks : 1

Question Key Details :

Key	Value
Comprehension	MCQ

Which of the following government body framed the National Nutrition Policy (NNP) of India in the year 1993?

1. Department of Women and Child Development
2. Ministry of Health and Family Welfare
3. Department of Science and Technology
4. Ministry of Consumer Affairs

Options :

- 485584146233. 1
- 485584146234. 2
- 485584146235. 3
- 485584146236. 4

Question Number : 174 Question Id : 48558436559 Question Type : MCQ Option Shuffling : No Is Question Mandatory : No Calculator : None Response Time : N.A Think Time : N.A Minimum Instruction Time : 0

Correct Marks : 5 Wrong Marks : 1

Question Key Details :

Key	Value
Comprehension	MCQ

1993-ൽ ഇന്ത്യയുടെ ദേശീയ പോഷകാഹാര നയം രൂപീകരിച്ച സർക്കാർ വകുപ്പ് ഏത്?

1. വനിതാ ശിശു വികസന വകുപ്പ്
2. ആരോഗ്യ-കുടുംബക്ഷേമ വകുപ്പ്
3. ശാസ്ത്ര സാങ്കേതിക വകുപ്പ്
4. ഉപഭോക്തൃകാര്യ വകുപ്പ്

Options :

- 485584146233. 1
- 485584146234. 2
- 485584146235. 3
- 485584146236. 4

Question Number : 175 Question Id : 48558436560 Question Type : MCQ Option Shuffling : No Is Question Mandatory : No Calculator : None Response Time : N.A Think Time : N.A Minimum Instruction Time : 0

Correct Marks : 5 Wrong Marks : 1

Question Key Details :

Key	Value
Comprehension	MCQ

Arrange the organizational structure / hierarchy followed by housekeeping department from top to bottom.

- A. Assistant housekeeper
- B. Room attendant
- C. Executive housekeeper
- D. Housemen
- E. Floor supervisor

Choose the correct answer from the options given below:

- 1. A, B, C, D, E
- 2. C, A, E, D, B
- 3. A, C, E, B, D
- 4. C, A, E, B, D

Options :

- 485584146237. 1
- 485584146238. 2
- 485584146239. 3
- 485584146240. 4

Question Number : 175 Question Id : 48558436560 Question Type : MCQ Option Shuffling : No Is Question Mandatory : No Calculator : None Response Time : N.A Think Time : N.A Minimum Instruction Time : 0

Correct Marks : 5 Wrong Marks : 1

Question Key Details :

Key	Value
Comprehension	MCQ

ഹൗസ് കീപ്പിംഗ് വിഭാഗത്തിലെ ജോലിക്കാരെ മുകളിൽ നിന്നും താഴേക്ക് എന്ന ക്രമത്തിൽ ചിട്ടപ്പെടുത്തുക.

- A. അസിസ്റ്റന്റ് ഹൗസ് കീപ്പർ
- B. റൂം അറ്റൻഡന്റ്
- C. എക്സിക്യൂട്ടീവ് ഹൗസ് കീപ്പർ
- D. ഹൗസ്മെൻ
- E. ഫ്ലോർ സൂപ്പർവൈസർ

താഴെ തന്നിരിക്കുന്ന ഓപ്ഷനുകളിൽ നിന്നും ശരിയുത്തരം തിരഞ്ഞെടുക്കുക:

- 1. A, B, C, D, E
- 2. C, A, E, D, B
- 3. A, C, E, B, D
- 4. C, A, E, B, D

Options :

- 485584146237. 1
- 485584146238. 2
- 485584146239. 3
- 485584146240. 4

Question Number : 176 Question Id : 48558436561 Question Type : MCQ Option Shuffling : No Is Question Mandatory : No Calculator : None Response Time : N.A Think Time : N.A Minimum Instruction Time : 0

Correct Marks : 5 Wrong Marks : 1

Question Key Details :

Key	Value
Comprehension	MCQ

Give the correct sequence of different stages of apparel production.

- A. Finishing and packaging
- B. Procurement and inspection of raw material
- C. Laying and cutting of fabric / material
- D. Assembly of the product

Choose the correct answer from the options given below:

- 1. A, B, C, D
- 2. B, A, C, D
- 3. D, A, B, C
- 4. B, C, D, A

Options :

- 485584146241. 1
- 485584146242. 2
- 485584146243. 3
- 485584146244. 4

Question Number : 176 Question Id : 48558436561 Question Type : MCQ Option Shuffling : No Is Question Mandatory : No Calculator : None Response Time : N.A Think Time : N.A Minimum Instruction Time : 0

Correct Marks : 5 Wrong Marks : 1

Question Key Details :

Key	Value
Comprehension	MCQ

വസ്ത്ര ഉൽപാദനത്തിന്റെ വിവിധ ഘട്ടങ്ങൾ ക്രമമായി നൽകുക.

- A. പണികൾ പൂർത്തിയാക്കി പായ്ക്ക് ചെയ്യുക
- B. അസംസ്കൃത വസ്തുക്കൾ വാങ്ങുകയും പരിശോധിക്കുകയും ചെയ്യുക
- C. തുണി മുറിച്ച് വിരിച്ചു വയ്ക്കുക
- D. ഉൽപന്നം ഉണ്ടാക്കുന്നതിനുള്ള വിവിധ ഭാഗങ്ങൾ കൂട്ടിച്ചേർക്കുക.

താഴെ തന്നിരിക്കുന്ന ഓപ്ഷനുകളിൽ നിന്നും ശരിയുത്തരം തിരഞ്ഞെടുക്കുക:

- 1. A, B, C, D
- 2. B, A, C, D
- 3. D, A, B, C
- 4. B, C, D, A

Options :

- 485584146241. 1
- 485584146242. 2
- 485584146243. 3
- 485584146244. 4

Question Number : 177 Question Id : 48558436562 Question Type : MCQ Option Shuffling : No Is Question Mandatory : No Calculator : None Response Time : N.A Think Time : N.A Minimum Instruction Time : 0

Correct Marks : 5 Wrong Marks : 1

Question Key Details :

Key	Value
Comprehension	MCQ

Arrange the given steps of nutritional care during illness in the correct sequence.

- A. Assessing nutritional status
- B. Planning and prioritising nutrition intervention(s)
- C. Diagnosis of nutritional problems
- D. Making changes in the nutritional care outcomes, if necessary
- E. Evaluating nutritional care outcomes

Choose the correct answer from the options given below:

- 1. C, B, A, D, E
- 2. C, E, B, A, D
- 3. A, C, B, E, D
- 4. A, C, B, D, E

Options :

- 485584146245. 1
- 485584146246. 2
- 485584146247. 3
- 485584146248. 4

Question Number : 177 Question Id : 48558436562 Question Type : MCQ Option Shuffling : No Is Question Mandatory : No Calculator : None Response Time : N.A Think Time : N.A Minimum Instruction Time : 0

Correct Marks : 5 Wrong Marks : 1

Question Key Details :

Key	Value
Comprehension	MCQ

രോഗാവസ്ഥയിൽ ഉള്ള ഒരാൾക്കു വേണ്ട പോഷണ പരിപാലനത്തിന്റെ വിവിധ ഘട്ടങ്ങൾ ശരിയായ ക്രമത്തിൽ ചിട്ടപ്പെടുത്തുക.

- A. പോഷണ നില വിലയിരുത്തൽ
- B. നൽകേണ്ട പോഷകങ്ങളുടെ ആസൂത്രണവും മുൻഗണനാ ക്രമവും നിശ്ചയിക്കൽ
- C. പോഷക ദൗർലഭ്യം കണ്ടെത്തുക
- D. പോഷക പരിപാലന ലക്ഷ്യങ്ങളിൽ ആവശ്യമെങ്കിൽ മാറ്റങ്ങൾ വരുത്തുക
- E. പോഷക പരിപാലന ഫലങ്ങൾ വിലയിരുത്തൽ

താഴെ തന്നിരിക്കുന്ന ഓപ്ഷനുകളിൽ നിന്നും ശരിയുത്തരം തിരഞ്ഞെടുക്കുക:

- 1. C, B, A, D, E
- 2. C, E, B, A, D
- 3. A, C, B, E, D
- 4. A, C, B, D, E

Options :

- 485584146245. 1
- 485584146246. 2
- 485584146247. 3
- 485584146248. 4

Question Number : 178 Question Id : 48558436563 Question Type : MCQ Option Shuffling : No Is Question Mandatory : No Calculator : None Response Time : N.A Think Time : N.A Minimum Instruction Time : 0

Correct Marks : 5 Wrong Marks : 1

Question Key Details :

Key	Value
Comprehension	MCQ

Which of the following is NOT a department/sector in hospitality industry?

1. Recruitment and staffing
2. Entertainment and recreation
3. Accommodation or front office
4. Food and beverage service

Options :

- 485584146249. 1
- 485584146250. 2
- 485584146251. 3
- 485584146252. 4

Question Number : 178 Question Id : 48558436563 Question Type : MCQ Option Shuffling : No Is Question Mandatory : No Calculator : None Response Time : N.A Think Time : N.A Minimum Instruction Time : 0

Correct Marks : 5 Wrong Marks : 1

Question Key Details :

Key	Value
Comprehension	MCQ

താഴെ കൊടുത്തിട്ടുള്ളവയിൽ ആതിഥേയത്വ വ്യവസായവുമായി ബന്ധമില്ലാത്തത് ഏത്?

1. ജീവനക്കാരുടെ തെരഞ്ഞെടുപ്പും നിയോഗിക്കലും
2. ആസ്വാദനവും വിനോദവും
3. താമസസ്ഥലം ഒരുക്കൽ
4. ഭക്ഷണ പാനീയങ്ങൾ വിതരണം ചെയ്യൽ

Options :

- 485584146249. 1
- 485584146250. 2
- 485584146251. 3
- 485584146252. 4

Question Number : 179 Question Id : 48558436564 Question Type : MCQ Option Shuffling : No Is Question Mandatory : No Calculator : None Response Time : N.A Think Time : N.A Minimum Instruction Time : 0

Correct Marks : 5 Wrong Marks : 1

Question Key Details :

Key	Value
Comprehension	MCQ

Which of the following falls under the category of rewards given to sustain high performance employees in an organisation ?

- A. Paid holidays
- B. Tax incentives
- C. Financial packages for children's education
- D. Financial compensation like driver's wages
- E. Disability insurance

Choose the correct answer from the options given below:

- 1. A, C and E only
- 2. A, C and D only
- 3. A, D and E only
- 4. B, C and D only

Options :

- 485584146253. 1
- 485584146254. 2
- 485584146255. 3
- 485584146256. 4

Question Number : 179 Question Id : 48558436564 Question Type : MCQ Option Shuffling : No Is Question Mandatory : No Calculator : None Response Time : N.A Think Time : N.A Minimum Instruction Time : 0

Correct Marks : 5 Wrong Marks : 1

Question Key Details :

Key	Value
Comprehension	MCQ

താഴെ കൊടുത്തിട്ടുള്ളവയിൽ, ഒരു സ്ഥാപനത്തിലെ ജോലിക്കാരുടെ മികച്ച പ്രകടനം നിലനിർത്തുന്നതിന്, അവർക്ക് നൽകുന്ന ഉപഹാരങ്ങളിൽ പെടുന്നത് ഏതെല്ലാം?

- A. ശമ്പളത്തോടു കൂടിയ അവധി
- B. നികുതി ഇളവുകൾ
- C. കുട്ടികളുടെ വിദ്യാഭ്യാസത്തിനുള്ള ധനസഹായം
- D. ഡ്രൈവറുടെ കുലി പോലുള്ള ചെലവുകൾക്കുള്ള ധനസഹായം
- E. ശാരീരിക വൈകല്യ ഇൻഷുറൻസ്

താഴെ തന്നിരിക്കുന്ന ഓപ്ഷനുകളിൽ നിന്നും ശരിയുത്തരം തിരഞ്ഞെടുക്കുക:

- 1. A, C, E മാത്രം
- 2. A, C, D മാത്രം
- 3. A, D, E മാത്രം
- 4. B, C, D മാത്രം

Options :

- 485584146253. 1
- 485584146254. 2
- 485584146255. 3
- 485584146256. 4

Question Number : 180 Question Id : 48558436565 Question Type : MCQ Option Shuffling : No Is Question Mandatory : No Calculator : None Response Time : N.A Think Time : N.A Minimum Instruction Time : 0

Correct Marks : 5 Wrong Marks : 1

Question Key Details :

Key	Value
-----	-------

Which of the following is NOT a function of human resources/talent management?

1. Marketing management
2. Getting the best employees
3. Retention and redressal
4. Training and developing employees

Options :

- 485584146257. 1
- 485584146258. 2
- 485584146259. 3
- 485584146260. 4

Question Number : 180 Question Id : 48558436565 Question Type : MCQ Option Shuffling : No Is Question Mandatory : No Calculator : None Response Time : N.A Think Time : N.A Minimum Instruction Time : 0

Correct Marks : 5 Wrong Marks : 1

Question Key Details :

Key	Value
Comprehension	MCQ

താഴെ തന്നിട്ടുള്ളവയിൽ മനുഷ്യ വിഭവ മാനേജ്മെന്റുമായി ബന്ധമില്ലാത്തത് ഏത്?

1. മാർക്കറ്റിംഗ് മാനേജ്മെന്റ്
2. ഏറ്റവും മികച്ച ജീവനക്കാരെ കണ്ടെത്തൽ
3. നിലനിർത്തലും നഷ്ടപരിഹാരം നൽകലും
4. ജീവനക്കാർക്ക് പരിശീലനം നൽകലും അവരുടെ കഴിവ് വർദ്ധിപ്പിക്കലും

Options :

- 485584146257. 1
- 485584146258. 2
- 485584146259. 3
- 485584146260. 4

Question Number : 181 Question Id : 48558436566 Question Type : MCQ Option Shuffling : No Is Question Mandatory : No Calculator : None Response Time : N.A Think Time : N.A Minimum Instruction Time : 0

Correct Marks : 5 Wrong Marks : 1

Question Key Details :

Key	Value
Comprehension	MCQ

A diet can be modified to meet the medical needs of a patient through which of the following?

- A. Changing consistency and/or texture
- B. Adding supplements
- C. Increase or decrease in the amount of one or more nutrients
- D. Increase or decrease in calorie intake
- E. Making an all fruit diet

Choose the correct answer from the options given below:

- 1. A, B and E only
- 2. A, C and E only
- 3. B, C and D only
- 4. A, C and D only

Options :

- 485584146261. 1
- 485584146262. 2
- 485584146263. 3
- 485584146264. 4

Question Number : 181 Question Id : 48558436566 Question Type : MCQ Option Shuffling : No Is Question Mandatory : No Calculator : None Response Time : N.A Think Time : N.A Minimum Instruction Time : 0

Correct Marks : 5 Wrong Marks : 1

Question Key Details :

Key	Value
Comprehension	MCQ

ഒരു രോഗിയുടെ ചികിത്സാ പരമായ ആശയങ്ങൾ നിറവേറ്റുന്നതിന്, താഴെ തന്നിട്ടുള്ളവയിൽ ഏതെല്ലാം രീതിയിലാണ് അയാളുടെ ഭക്ഷണക്രമം മാറ്റാവുന്നത്?

- A. ഉള്ളടക്കവും രുപവും മാറ്റൽ
- B. പൂരകങ്ങൾ ചേർക്കൽ
- C. ഒന്നോ അതിലധികമോ പോഷക ഘടകങ്ങളുടെ അളവ് കുറയ്ക്കുകയോ കൂട്ടുകയോ ചെയ്യുക
- D. കഴിക്കുന്ന കലോറിയുടെ അളവ് കുറയ്ക്കുകയോ കൂട്ടുകയോ ചെയ്യുക
- E. പഴവർഗങ്ങൾ മാത്രം അടങ്ങിയ ഭക്ഷണക്രമം നിർദ്ദേശിക്കുക

താഴെ തന്നിരിക്കുന്ന ഓപ്ഷനുകളിൽ നിന്നും ശരിയുത്തരം തിരഞ്ഞെടുക്കുക:

- 1. A, B, E മാത്രം
- 2. A, C, E മാത്രം
- 3. B, C, D മാത്രം
- 4. A, C, D മാത്രം

Options :

- 485584146261. 1
- 485584146262. 2
- 485584146263. 3
- 485584146264. 4

Question Number : 182 Question Id : 48558436567 Question Type : MCQ Option Shuffling : No Is Question Mandatory : No Calculator : None Response Time : N.A Think Time : N.A Minimum Instruction Time : 0

Correct Marks : 5 Wrong Marks : 1

Question Key Details :

Key	Value
Comprehension	MCQ

Shreya wants to design a dress by incorporating rhythm design principle. Which of the following can NOT be used to create rhythm?

- 1. Use of contrasting colours
- 2. Cordation
- 3. Radiation
- 4. Parallelism

Options :

- 485584146265. 1
- 485584146266. 2
- 485584146267. 3
- 485584146268. 4

Question Number : 182 Question Id : 48558436567 Question Type : MCQ Option Shuffling : No Is Question Mandatory : No Calculator : None Response Time : N.A Think Time : N.A Minimum Instruction Time : 0

Correct Marks : 5 Wrong Marks : 1

Question Key Details :

Key	Value
Comprehension	MCQ

റിഥം ഡിസൈൻ തത്വം ഉപയോഗിച്ച് ശ്രേയക് ഒരു വസ്ത്രം തയ്യാറാക്കണം. താഴെ തന്നിരിക്കുന്നവയിൽ റിഥം ഉണ്ടാക്കുന്നതിന് ഉപയോഗിക്കാൻ പറ്റാത്തത് എന്ത്?

- 1. വിപരീത നിറങ്ങളുടെ ഉപയോഗം
- 2. കോർഡേഷൻ
- 3. റേഡിയേഷൻ
- 4. പാരലലിസം

Options :

- 485584146265. 1
- 485584146266. 2
- 485584146267. 3
- 485584146268. 4

Question Number : 183 Question Id : 48558436568 Question Type : MCQ Option Shuffling : No Is Question Mandatory : No Calculator : None Response Time : N.A Think Time : N.A Minimum Instruction Time : 0

Correct Marks : 5 Wrong Marks : 1

Question Key Details :

Key	Value
Comprehension	MCQ

Identify the aspects relating to care and maintenance of fabrics:

- A. Keeping the material free of physical damage
- B. Discard clothes if any damage occurs
- C. Refreshing or retaining the appearance by removing stains and dirt
- D. Retaining the textural and visual characteristics
- E. Changing the visual characteristics

Choose the correct answer from the options given below:

- 1. A, B and C only
- 2. B, C and D only
- 3. C, D and E only
- 4. A, C and D only

Options :

- 485584146269. 1
- 485584146270. 2
- 485584146271. 3
- 485584146272. 4

Question Number : 183 Question Id : 48558436568 Question Type : MCQ Option Shuffling : No Is Question Mandatory : No Calculator : None Response Time : N.A Think Time : N.A Minimum Instruction Time : 0

Correct Marks : 5 Wrong Marks : 1

Question Key Details :

Key	Value
Comprehension	MCQ

വസ്ത്ര പരിപാലനവുമായി ബന്ധപ്പെട്ട പ്രസ്താവനകൾ ഏതെല്ലാം:

- A. വസ്ത്രങ്ങൾ കേടു കൂടാതെ സൂക്ഷിക്കുക
- B. കേടുവന്നാൽ വസ്ത്രങ്ങൾ ഉപേക്ഷിക്കുക
- C. കുറയും ചെളിയും കളഞ്ഞ് വസ്ത്രങ്ങൾ പുതുക്കുകയോടെ നിലനിർത്തുക
- D. വസ്ത്രത്തിന്റെ ഘടനയും ദൃശ്യഭംഗിയും നിലനിർത്തുക
- E. വസ്ത്രത്തിന്റെ ദൃശ്യരൂപത്തിന് മാറ്റം വരുത്തുക

താഴെ തന്നിരിക്കുന്ന ഓപ്ഷനുകളിൽ നിന്നും ശരിയുത്തരം തിരഞ്ഞെടുക്കുക:

- 1. A, B, C മാത്രം
- 2. B, C, D മാത്രം
- 3. C, D, E മാത്രം
- 4. A, C, D മാത്രം

Options :

- 485584146269. 1
- 485584146270. 2
- 485584146271. 3
- 485584146272. 4

Question Number : 184 Question Id : 48558436569 Question Type : MCQ Option Shuffling : No Is Question Mandatory : No Calculator : None Response Time : N.A Think Time : N.A Minimum Instruction Time : 0

Correct Marks : 5 Wrong Marks : 1

Question Key Details :

Key	Value
Comprehension	MCQ

Which of the following does NOT fall under the category of straight lines ?

1. Vertical
2. Zig-zag
3. Horizontal
4. Diagonal

Options :

- 485584146273. 1
- 485584146274. 2
- 485584146275. 3
- 485584146276. 4

Question Number : 184 Question Id : 48558436569 Question Type : MCQ Option Shuffling : No Is Question Mandatory : No Calculator : None Response Time : N.A Think Time : N.A Minimum Instruction Time : 0

Correct Marks : 5 Wrong Marks : 1

Question Key Details :

Key	Value
Comprehension	MCQ

നേർരേഖകൾ എന്ന വിഭാഗത്തിൽ പെടാത്തത് ഏത്?

1. വെർട്ടിക്കൽ (ലംബം)
2. സിഗ്-സാഗ്
3. ഹൊറിസോണ്ടൽ (തീരശ്ചീനം)
4. ഡയഗണൽ

Options :

- 485584146273. 1
- 485584146274. 2
- 485584146275. 3
- 485584146276. 4

Question Number : 185 Question Id : 48558436570 Question Type : MCQ Option Shuffling : No Is Question Mandatory : No Calculator : None Response Time : N.A Think Time : N.A Minimum Instruction Time : 0

Correct Marks : 5 Wrong Marks : 1

Question Key Details :

Key	Value
Comprehension	MCQ

Match List I with List II

LIST I (Processed foods)		LIST II (Examples)	
A.	Preserved foods	I.	Low sodium salt
B.	Manufactured foods	II.	Canned fruits
C.	Formulated foods	III.	Papada
D.	Medical foods	IV.	Ice creams

Choose the correct answer from the options given below:

1. A-I, B-II, C-III, D-IV
2. A-II, B-III, C-I, D-IV
3. A-III, B-II, C-I, D-IV
4. A-II, B-III, C-IV, D-I

Options :

485584146277. 1
 485584146278. 2
 485584146279. 3
 485584146280. 4

Question Number : 185 Question Id : 48558436570 Question Type : MCQ Option Shuffling : No Is Question Mandatory : No Calculator : None Response Time : N.A Think Time : N.A Minimum Instruction Time : 0

Correct Marks : 5 Wrong Marks : 1

Question Key Details :

Key	Value
Comprehension	MCQ

ചേരുമ്പോൾ പട്ടിക പേരിടുക

പട്ടിക I (സംസ്കരിച്ച ഭക്ഷണം)		പട്ടിക II (ഉദാഹരണം)	
A.	പ്രിസർവ്ഡ് ഫുഡ്	I.	കുറഞ്ഞ സോഡിയം സോൾട്ട്
B.	മാനുഫാക്ചേർഡ് ഫുഡ്	II.	ടീനിലടച്ച ഭക്ഷണം
C.	ഫോർമുലേറ്റഡ് ഫുഡ്	III.	പപ്പടം
D.	മെഡിക്കൽ ഫുഡ്	IV.	ഐസ്ക്രീം

താഴെ തന്നിരിക്കുന്ന ഓപ്ഷനുകളിൽ നിന്നും ശരിയുത്തരം തിരഞ്ഞെടുക്കുക:

1. A-I, B-II, C-III, D-IV
2. A-II, B-III, C-I, D-IV
3. A-III, B-II, C-I, D-IV
4. A-II, B-III, C-IV, D-I

Options :

485584146277. 1
 485584146278. 2
 485584146279. 3
 485584146280. 4

Question Number : 186 Question Id : 48558436571 Question Type : MCQ Option Shuffling : No Is Question Mandatory : No Calculator : None Response Time : N.A Think Time : N.A Minimum Instruction Time : 0

Correct Marks : 5 Wrong Marks : 1

Question Key Details :

Key	Value
Comprehension	MCQ

Match List I with List II

LIST I (Terms)		LIST II (Explanation)	
A.	Food Quality	I.	Assurance that food will not cause any harm to the consumers
B.	Toxicity	II.	Relative probability that harm or injury will result when substance is not used in prescribed manner and quantity
C.	Food Safety	III.	Capacity of a substance to produce harm or injury of any kind under any conditions
D.	Hazard	IV.	Attributes that influence a product's value to consumers

Choose the correct answer from the options given below:

1. A-IV, B-III, C-I, D-II
2. A-I, B-II, C-III, D-IV
3. A-I, B-IV, C-II, D-III
4. A-IV, B-III, C-II, D-I

Options :

485584146281. 1
485584146282. 2
485584146283. 3
485584146284. 4

Question Number : 186 Question Id : 48558436571 Question Type : MCQ Option Shuffling : No Is Question Mandatory : No Calculator : None Response Time : N.A Think Time : N.A Minimum Instruction Time : 0

Correct Marks : 5 Wrong Marks : 1

Question Key Details :

Key	Value
Comprehension	MCQ

ചേരും പടി ചേർക്കുക

പട്ടിക I (Terms) (translation missing)		പട്ടിക II (Explanation) (translation missing)	
A.	ഭക്ഷണത്തിന്റെ ഗുണം	I.	ഭക്ഷണം ഉപഭോക്താക്കൾക്ക് യാതൊരു വിധ അപകടവും വരുത്തുന്നില്ലെന്ന് ഉറപ്പ്
B.	വിഷലിപ്തത	II.	നിരന്ദേശിക്കപ്പെട്ട അളവിലോ തീതിയിലോ അല്ലാതെ വസ്തുക്കൾ ചേർക്കുന്നതു വഴി ഭക്ഷണം അപകടകരമായി മാറാനുള്ള ആപേക്ഷിക സാധ്യത
C.	ഭക്ഷ്യ സുരക്ഷ	III.	പുഴു സാഹചര്യത്തിലായാലും അപകടം ഉണ്ടാകാനുള്ള ഒരു വസ്തുവിന്റെ കഴിവ്
D.	അപകടം	IV.	ഉപഭോക്താവ് ഒരു ഉൽപ്പന്നത്തിന് നൽകുന്ന മൂല്യത്തെ സ്വാധീനിക്കുന്ന ഘടകങ്ങൾ

താഴെ തന്നിരിക്കുന്ന ഓപ്ഷനുകളിൽ നിന്നും ശരിയുത്തരം തിരഞ്ഞെടുക്കുക:

1. A-IV, B-III, C-I, D-II
2. A-I, B-II, C-III, D-IV
3. A-I, B-IV, C-II, D-III
4. A-IV, B-III, C-II, D-I

Options :

485584146281. 1
485584146282. 2
485584146283. 3
485584146284. 4

Question Number : 187 Question Id : 48558436572 Question Type : MCQ Option Shuffling : No Is Question Mandatory : No Calculator : None Response Time : N.A Think Time : N.A Minimum Instruction Time : 0

Correct Marks : 5 Wrong Marks : 1

Question Key Details :

Key	Value
Comprehension	MCQ

Match List I with List II

LIST I (Extension Projects)	LIST II (Communication tools used)
A. RRE	I. Satellite
B. SEWA	II. Print media
C. Project Village Chhaters	III. Campaign
D. EDUSAT	IV. ICT

Choose the correct answer from the options given below:

1. A-II, B-I, C-IV, D-III
2. A-IV, B-I, C-III, D-II
3. A-III, B-IV, C-II, D-I
4. A-II, B-III, C-I, D-IV

Options :

- 485584146285. 1
- 485584146286. 2
- 485584146287. 3
- 485584146288. 4

Question Number : 187 Question Id : 48558436572 Question Type : MCQ Option Shuffling : No Is Question Mandatory : No Calculator : None Response Time : N.A Think Time : N.A Minimum Instruction Time : 0

Correct Marks : 5 Wrong Marks : 1

Question Key Details :

Key	Value
Comprehension	MCQ

ചേർന്നു പടി ചേർക്കുക

പട്ടിക I (പദ്ധതികൾ)	പട്ടിക II (ആശയവിനിമയ ഉപകരണം)
A. RRE	I. ഉപഗ്രഹം
B. SEWA	II. അച്ചടി മാധ്യമം
C. ഹരദേശ ഗ്രാമപദ്ധതി	III. പ്രചാരണ പരിപാടി
D. EDUSAT	IV. ICT

താഴെ തന്നിരിക്കുന്ന ഓപ്ഷനുകളിൽ നിന്നും ശരിയായതും തിരഞ്ഞെടുക്കുക:

1. A-II, B-I, C-IV, D-III
2. A-IV, B-I, C-III, D-II
3. A-III, B-IV, C-II, D-I
4. A-II, B-III, C-I, D-IV

Options :

- 485584146285. 1
- 485584146286. 2
- 485584146287. 3
- 485584146288. 4

Question Number : 188 Question Id : 48558436573 Question Type : MCQ Option Shuffling : No Is Question Mandatory : No Calculator : None Response Time : N.A Think Time : N.A Minimum Instruction Time : 0

Correct Marks : 5 Wrong Marks : 1

Question Key Details :

Key	Value
Comprehension	MCQ

Match List I with List II

LIST I (Terms)		LIST II (Description)	
A. Quality Assurance	I.	Process of implementation and monitoring of quality systems like TQM, ISO	
B. Quality control	II.	Process of problem solving with the purpose of getting a 'zero-defect' product	
C. Quality Management	III.	Characteristics of the product that are given by the buyer or desired by the consumer	
D. Specifications	IV.	Process of preventive problem management	

Choose the correct answer from the options given below:

1. A-IV, B-II, C-I, D-III
2. A-IV, B-I, C-II, D-III
3. A-IV, B-II, C-III, D-I
4. A-I, B-II, C-IV, D-III

Options :

- 485584146289. 1
- 485584146290. 2
- 485584146291. 3
- 485584146292. 4

Question Number : 188 Question Id : 48558436573 Question Type : MCQ Option Shuffling : No Is Question Mandatory : No Calculator : None Response Time : N.A Think Time : N.A Minimum Instruction Time : 0

Correct Marks : 5 Wrong Marks : 1

Question Key Details :

Key	Value
Comprehension	MCQ

ചേരും പട്ടി ചേർക്കുക

പട്ടിക I (പദങ്ങൾ)		പട്ടിക II (വിവരണം)	
A. ഗുണനിലവാരം ഉറപ്പു വരുത്തൽ	I.	TQM, ISO പോലുള്ള ഗുണനിലവാര പരിശോധനാ സംവിധാനങ്ങൾ സ്ഥാപിക്കുകയും അതിന് മേൽനോട്ടം വഹിക്കുകയും ചെയ്യുന്ന പ്രക്രിയ	
B. ഗുണനിലവാര നിയന്ത്രണം	II.	സ്മൃതകൾ ഇല്ലാത്ത ഒരു ഉൽപ്പന്നം ഉണ്ടാക്കുന്നതിനുള്ള പ്രക്രിയ	
C. ഗുണനിലവാര നിർവ്വഹണം	III.	ഒരു ഉൽപ്പന്നത്തിന്റെ ഉപഭോക്താക്കൾ ആഗ്രഹിക്കുന്ന സവിശേഷതകൾ	
D. സവിശേഷതകൾ	IV.	പ്രശ്നങ്ങളെ പ്രതിരോധാത്മകമായി കൈകാര്യം ചെയ്യുന്ന പ്രക്രിയ	

താഴെ തന്നിരിക്കുന്ന ഓപ്ഷനുകളിൽ നിന്നും ശരിയുത്തരം തിരഞ്ഞെടുക്കുക:

1. A-IV, B-II, C-I, D-III
2. A-IV, B-I, C-II, D-III
3. A-IV, B-II, C-III, D-I
4. A-I, B-II, C-IV, D-III

Options :

- 485584146289. 1
- 485584146290. 2
- 485584146291. 3

Question Number : 189 Question Id : 48558436574 Question Type : MCQ Option Shuffling : No Is Question Mandatory : No Calculator : None Response Time : N.A Think Time : N.A Minimum Instruction Time : 0

Correct Marks : 5 Wrong Marks : 1

Question Key Details :

Key	Value
Comprehension	MCQ

Match List I with List II

LIST I (Designations)	LIST II (Duties)
A. Head waiter	I. Reserves, registers and assigns rooms to guests
B. Chef-de-cuisine	II. Supervisors for some sections of the kitchen
C. Receptionist	III. Lead a team of waiters/stewards
D. Chef-de-parties	IV. Planning, organising and controlling the kitchen operations

Choose the correct answer from the options given below:

- 1. A-III, B-IV, C-I, D-II
- 2. A-II, B-IV, C-III, D-I
- 3. A-I, B-II, C-III, D-IV
- 4. A-IV, B-II, C-I, D-III

Options :

- 485584146293. 1
- 485584146294. 2
- 485584146295. 3
- 485584146296. 4

Question Number : 189 Question Id : 48558436574 Question Type : MCQ Option Shuffling : No Is Question Mandatory : No Calculator : None Response Time : N.A Think Time : N.A Minimum Instruction Time : 0

Correct Marks : 5 Wrong Marks : 1

Question Key Details :

Key	Value
Comprehension	MCQ

മേൽപ്പറഞ്ഞ പട്ടികകൾക്ക്

പട്ടിക I (ഔദ്യോഗിക സ്ഥാനപ്പേര്)	പട്ടിക II (ഉത്തരവാഹിത്തങ്ങൾ)
A. ഹെഡ് വെയ്റ്റർ	I. അതിഥികൾക്കു വേണ്ട മുറികൾ നിശ്ചയിച്ചെടുക്കുകയും രജിസ്റ്ററിൽ രേഖപ്പെടുത്തുകയും നൽകുകയും ചെയ്യുക
B. ചീഫ്-ഓഫീസറുടെ സഹായക	II. അടുക്കളയിലെ ചില ഭാഗങ്ങൾക്ക് മേൽനോട്ടം വഹിക്കുക
C. സെക്ഷനിലെ ഹെഡ് വെയ്റ്റർ	III. ഹെഡ് വെയ്റ്റർമാരുടെ സംഘത്തിന് നേതൃത്വം നൽകുക
D. ചീഫ്-ഓഫീസറുടെ സഹായക	IV. അടുക്കളയുമായി ബന്ധപ്പെട്ട പ്രവർത്തനങ്ങൾ ആസൂത്രണം ചെയ്യുകയും സംഘടിപ്പിക്കുകയും നിയന്ത്രിക്കുകയും ചെയ്യുക

താഴെ തന്നിരിക്കുന്ന ഓപ്ഷനുകളിൽ നിന്നും ശരിയുത്തരം തിരഞ്ഞെടുക്കുക:

- 1. A-III, B-IV, C-I, D-II
- 2. A-II, B-IV, C-III, D-I
- 3. A-I, B-II, C-III, D-IV
- 4. A-IV, B-II, C-I, D-III

Options :

- 485584146293. 1

485584146294. 2
 485584146295. 3
 485584146296. 4

Question Number : 190 Question Id : 48558436575 Question Type : MCQ Option Shuffling : No Is Question Mandatory : No Calculator : None
 Response Time : N.A Think Time : N.A Minimum Instruction Time : 0

Correct Marks : 5 Wrong Marks : 1

Question Key Details :

Key	Value
Comprehension	MCQ

Match List I with List II

LIST I (Programme)	LIST II (Target group)
A. ICDS	I. Children under 18 years of age
B. SOS	II. College going students
C. Special homes	III. Children below six years of age
D. NSS	IV. Needy/abandoned children

Choose the correct answer from the options given below:

1. A-I, B-IV, C-II, D-I
2. A-IV, B-III, C-I, D-II
3. A-III, B-IV, C-I, D-II
4. A-IV, B-III, C-II, D-I

Options :

485584146297. 1
 485584146298. 2
 485584146299. 3
 485584146300. 4

Question Number : 190 Question Id : 48558436575 Question Type : MCQ Option Shuffling : No Is Question Mandatory : No Calculator : None
 Response Time : N.A Think Time : N.A Minimum Instruction Time : 0

Correct Marks : 5 Wrong Marks : 1

Question Key Details :

Key	Value
Comprehension	MCQ

മേൽപ്പറഞ്ഞ പട്ടിക I യുമായി പട്ടിക II യെ

പട്ടിക I (പദ്ധതി)	പട്ടിക II (ലക്ഷ്യം വയ്ക്കുന്ന ആളുകൾ)
A. ICDS	I. 18 വയസ്സിൽ താഴെയുള്ള കുട്ടികൾ
B. SOS	II. കോളേജ് വിദ്യാർത്ഥികൾ
C. പ്രത്യേക വീടുകൾ	III. 6 വയസ്സിൽ താഴെയുള്ള കുട്ടികൾ
D. NSS	IV. ഉപേക്ഷിക്കപ്പെട്ട കുട്ടികൾ

താഴെ തന്നിരിക്കുന്ന ഓപ്ഷനുകളിൽ നിന്നും ശരിയായതരം തിരഞ്ഞെടുക്കുക:

1. A-I, B-IV, C-II, D-I
2. A-IV, B-III, C-I, D-II
3. A-III, B-IV, C-I, D-II
4. A-IV, B-III, C-II, D-I

Options :

485584146297. 1
 485584146298. 2
 485584146299. 3

485584146300.4

Sub-Section Number : 2
Sub-Section Id : 4855842700
Question Shuffling Allowed : No
Is Section Default? : null

Question Number : 191 Question Id : 48558436576 Question Type : MCQ Option Shuffling : No Is Question Mandatory : No Calculator : None
Response Time : N.A Think Time : N.A Minimum Instruction Time : 0

Correct Marks : 5 Wrong Marks : 1

Question Key Details :

Key	Value
Comprehension	Comp1

Read the passage carefully. Attempt Question

Anganwadi Centers (AWCs) are the most common and publicly available facilities, initially constituted in 1975 to strengthen the public health system by providing immunization and health check-ups, and later to provide supplementary nutrition non-formal pre-school education and day-care.

The two key elements of early childhood development include education and health. A child's early years (0 to 8 years) form the foundation of all learning and are therefore the most extraordinary period of development in a child's life. Research has shown that greater cognitive abilities and being developmentally on track with literacy and numeracy in childhood provide for better learning in school and higher educational attainment, leading to major social and economic gains for society in the long run. Similarly, providing children with a nurturing environment in early years, with adequate nutrition, hygiene, protection and responsive stimulation, boosts healthy childhood development and delivers positive outcomes.

The Anganwadi centers were started in which year in India?

1. 1975
2. 1980
3. 1982
4. 1984

Options :

485584146301.1
485584146302.2
485584146303.3
485584146304.4

Question Number : 191 Question Id : 48558436576 Question Type : MCQ Option Shuffling : No Is Question Mandatory : No Calculator : None
Response Time : N.A Think Time : N.A Minimum Instruction Time : 0

Correct Marks : 5 Wrong Marks : 1

Question Key Details :

Key	Value
Comprehension	Comp1

Read the passage carefully. Attempt Question 41-45 (Translation missing)

പൊതു ആരോഗ്യ സംവിധാനം ശക്തിപ്പെടുത്തുന്നതിനുള്ള ഏറ്റവും സാധാരണവും പൊതുവിൽ ലഭ്യമായതുമായ സൗകര്യങ്ങളാണ് 1975-ൽ ആരംഭിച്ച അംഗൻവാടി കേന്ദ്രങ്ങൾ. പ്രതിരോധ കുത്തിവയ്പ്പുകൾ, ആരോഗ്യ പരിശോധനകൾ, പുനർ പോഷകാഹാര വിതരണം, അനുപചാരിക പ്രീ-സ്കൂൾ വിദ്യാഭ്യാസം, പ്രതിദിന പരിപാലനം എന്നിവ അംഗൻവാടികളിലൂടെ നൽകി വരുന്നു.

വിദ്യാഭ്യാസവും ആരോഗ്യവുമാണ് ലൈസൻസുള്ള കൂട്ടികളുടെ വളർച്ചയ്ക്ക് അത്യാവശ്യമായ രണ്ട് ഘടകങ്ങൾ. പുഷ്പം തുടർ 8 വയസുള്ള വർഷങ്ങളിലാണ് ഒരു കൂട്ടിയിൽ പുല്ലാത്തരം പഠനങ്ങൾക്കും അടിസ്ഥാനമിടുന്നത്. അതു കൊണ്ടു തന്നെ, കൂട്ടിയുടെ വളർച്ചയിലെ അസാധാരണമായ കാലഘട്ടമാണ് ഇത്. സാക്ഷരതയും അക്ഷപരിചയവും കൂട്ടികളുടെ ബന്ധിക വികാസത്തെ ഗുണപരമായി സഹായിക്കുമെന്ന ഗവേഷണം ചൂണ്ടിക്കാണിക്കുന്നു. ഇത്തരം കൂട്ടികൾ സ്കൂളിലും ഉന്നത വിദ്യാഭ്യാസരംഗത്തും നല്ല പ്രകടനം നടത്തുകയും ദീർഘകാലത്തിൽ സമൂഹത്തിന് സാമൂഹികമായും സാമ്പത്തികമായും പ്രയോജനം ചെയ്യുകയും ചെയ്യുന്നു. അതു പോലെ തന്നെ കൂട്ടികൾക്ക് ലൈസൻസുള്ള ആവശ്യമായ പോഷണവും വ്യത്തിയുള്ള അന്തരീക്ഷവും സംരക്ഷണവും ഉത്തരജനവും നൽകുന്നത് കൂട്ടികളുടെ വികാസത്തെ സഹായിക്കുകയും ഗുണപരമായ ഫലങ്ങൾ ഉണ്ടാക്കുകയും ചെയ്യുന്നു.

ഇന്ത്യയിൽ അംഗൻവാടി കേന്ദ്രങ്ങൾ ആരംഭിച്ച വർഷം ഏത്?

- 1. 1975
- 2. 1980
- 3. 1982
- 4. 1984

Options :
 485584146301. 1
 485584146302. 2
 485584146303. 3
 485584146304. 4

Question Number : 192 Question Id : 48558436577 Question Type : MCQ Option Shuffling : No Is Question Mandatory : No Calculator : None Response Time : N.A Think Time : N.A Minimum Instruction Time : 0 Correct Marks : 5 Wrong Marks : 1 Question Key Details :

Key	Value
Comprehension	Compl

Read the passage carefully. Attempt Question

Anganwadi Centers (AWCs) are the most common and publicly available facilities, initially constituted in 1975 to strengthen the public health system by providing immunization and health check-ups, and later to provide supplementary nutrition non-formal pre-school education and day-care.

The two key elements of early childhood development include education and health. A child's early years (0 to 8 years) form the foundation of all learning and are therefore the most extraordinary period of development in a child's life. Research has shown that greater cognitive abilities and being developmentally on track with literacy and numeracy in childhood provide for better learning in school and higher educational attainment, leading to major social and economic gains for society in the long run. Similarly, providing children with a nurturing environment in early years, with adequate nutrition, hygiene, protection and responsive stimulation, boosts healthy childhood development and delivers positive outcomes.

Identify the functions of the Anganvadi centres from the following:

- A. Providing immunisation
- B. Supplementary nutrition
- C. Non-formal pre-school education
- D. Supporting children in doing home-work after school

Choose the correct answer from the options given below:

- 1. B, C and D only
- 2. A, B and D only
- 3. A, B and C only
- 4. A, D and C only

Options :

- 485584146305. 1
- 485584146306. 2
- 485584146307. 3
- 485584146308. 4

Question Number : 192 Question Id : 48558436577 Question Type : MCQ Option Shuffling : No Is Question Mandatory : No Calculator : None Response Time : N.A Think Time : N.A Minimum Instruction Time : 0

Correct Marks : 5 Wrong Marks : 1

Question Key Details :

Key	Value
Comprehension	Compl

Read the passage carefully. Attempt Question 41-45 (Translation missing)

പൊതു ആരോഗ്യ സംവിധാനം ശക്തിപ്പെടുത്തുന്നതിനുള്ള ഏറ്റവും സാധാരണവും പൊതുവിൽ ലഭ്യമായതുമായ സൗകര്യങ്ങളാണ് 1975-ൽ ആരംഭിച്ച അംഗൻവാടി കേന്ദ്രങ്ങൾ. പ്രതിരോധ കുത്തിവയ്പ്പുകൾ, ആരോഗ്യ പരിശോധനകൾ, പുരക പോഷകാഹാര വിതരണം, അനൗപചാരിക പ്രീ-സ്കൂൾ വിദ്യാഭ്യാസം, പ്രതിദിന പരിപാലനം എന്നിവ അംഗൻവാടികളിലൂടെ നൽകി വരുന്നു.

വിദ്യാഭ്യാസവും ആരോഗ്യവുമാണ് ലൈസൻസുള്ള കുട്ടികളുടെ വളർച്ചയ്ക്ക് അത്യാവശ്യമായ രണ്ട് ഘടകങ്ങൾ. പൂർണ്ണമായും 3 വയസുള്ള വർഷങ്ങളിലാണ് ഒരു കുട്ടിയിൽ എല്ലാത്തരം പഠനങ്ങൾക്കും അടിസ്ഥാനമിടുന്നത്. അതു കൊണ്ടു തന്നെ, കുട്ടിയുടെ വളർച്ചയിലെ അസാധാരണമായ കാലഘട്ടമാണ് ഇത്. സാക്ഷരതയും അക്ഷപരിചയവും കുട്ടികളുടെ ബുദ്ധിമുട്ടുകൾ വികാസത്തെ ഗുണപരമായി സഹായിക്കുമെന്ന ഗവേഷണം ചൂണ്ടിക്കാണിക്കുന്നു. ഇത്തരം കുട്ടികൾ സ്കൂളിലും ഉന്നത വിദ്യാഭ്യാസരംഗത്തും നല്ല പ്രകടനം നടത്തുകയും ദീർഘകാലത്തിൽ സമൂഹത്തിന് സാമൂഹികമായും സാമ്പത്തികമായും പ്രയോജനം ചെയ്യുകയും ചെയ്യുന്നു. അതു പോലെ തന്നെ കുട്ടികൾക്ക് ലൈസൻസുള്ള ആവശ്യമായ പോഷണവും വ്യക്തിയുള്ള അന്വേഷണവും സംരക്ഷണവും ഉത്തരജനവും നൽകുന്നത് കുട്ടികളുടെ വികാസത്തെ സഹായിക്കുകയും ഗുണപരമായ ഫലങ്ങൾ ഉണ്ടാക്കുകയും ചെയ്യുന്നു.

തന്നിരിക്കുന്നവയിൽ അംഗൻവാടി കേന്ദ്രങ്ങളുടെ ചുമതലകൾ ഏതെല്ലാം?

- A. പ്രതിരോധ കുത്തിവയ്പ്പ് നൽകുക
- B. പുരക പോഷകാഹാരം
- C. അനൗപചാരിക പ്രീ-സ്കൂൾ വിദ്യാഭ്യാസം
- D. സ്കൂൾ സമയത്തിനു ശേഷം ഗൃഹപാഠം ചെയ്യാൻ കുട്ടികളെ സഹായിക്കുക

താഴെ തന്നിരിക്കുന്ന ഓപ്ഷനുകളിൽ നിന്നും ശരിയുത്തരം തിരഞ്ഞെടുക്കുക:

- 1. B, C, D മാത്രം
- 2. A, B, D മാത്രം
- 3. A, B, C മാത്രം
- 4. A, D, C മാത്രം

Options :

- 485584146305. 1
- 485584146306. 2
- 485584146307. 3
- 485584146308. 4

Question Number : 193 Question Id : 48558436578 Question Type : MCQ Option Shuffling : No Is Question Mandatory : No Calculator : None Response Time : N.A Think Time : N.A Minimum Instruction Time : 0

Correct Marks : 5 Wrong Marks : 1

Question Key Details :

Key	Value
Comprehension	Comp1

Read the passage carefully. Attempt Question

Anganwadi Centers (AWCs) are the most common and publicly available facilities, initially constituted in 1975 to strengthen the public health system by providing immunization and health check-ups, and later to provide supplementary nutrition non-formal pre-school education and day-care.

The two key elements of early childhood development include education and health. A child's early years (0 to 8 years) form the foundation of all learning and are therefore the most extraordinary period of development in a child's life. Research has shown that greater cognitive abilities and being developmentally on track with literacy and numeracy in childhood provide for better learning in school and higher educational attainment, leading to major social and economic gains for society in the long run. Similarly, providing children with a nurturing environment in early years, with adequate nutrition, hygiene, protection and responsive stimulation, boosts healthy childhood development and delivers positive outcomes.

The two key elements of early childhood development are _____

1. Nutrition and immunisation
2. Health and education
3. School readiness and health
4. Day care and creche

Options :

- 485584146309. 1
- 485584146310. 2
- 485584146311. 3
- 485584146312. 4

Question Number : 193 Question Id : 48558436578 Question Type : MCQ Option Shuffling : No Is Question Mandatory : No Calculator : None Response Time : N.A Think Time : N.A Minimum Instruction Time : 0

Correct Marks : 5 Wrong Marks : 1

Question Key Details :

Key	Value
Comprehension	Comp1

Read the passage carefully. Attempt Question 41-45 (Translation missing)

പൊതു ആരോഗ്യ സംവിധാനം ശക്തിപ്പെടുത്തുന്നതിനുള്ള ഏറ്റവും സാധാരണവും പൊതുവിൽ ലഭ്യമായതുമായ സൗകര്യങ്ങളാണ് 1975-ൽ ആരംഭിച്ച അംഗീകൃത കേന്ദ്രങ്ങൾ. പ്രതിരോധ കുത്തിവയ്പ്പുകൾ, ആരോഗ്യ പരിശോധനകൾ, പുനഃപോഷകപാഠ വിതരണം, അനുപചാരിക പ്രീ-സ്കൂൾ വിദ്യാഭ്യാസം, പ്രതിദിന പരിപാലനം എന്നിവ അംഗീകൃത കേന്ദ്രങ്ങളുടെ നൽകി വരുന്നു.

വിദ്യാഭ്യാസവും ആരോഗ്യവുമാണ് ശൈശവ ദശയിൽ കുട്ടികളുടെ വളർച്ചയ്ക്ക് അത്യാവശ്യമായ രണ്ട് ഘടകങ്ങൾ. പുഷ്ടി മൂലമല്ല വളർച്ചയ്ക്കുള്ള വർഷങ്ങളിലാണ് ഒരു കുട്ടിയിൽ പുഷ്ടിത്തരം പഠനങ്ങൾക്കും അടിസ്ഥാനമിടുന്നത്. അതു കൊണ്ടു തന്നെ, കുട്ടിയുടെ വളർച്ചയിലെ അസാധാരണമായ കാലഘട്ടമാണ് ഇത്. സാക്ഷരതയും അക്ഷപരിചയവും കുട്ടികളുടെ ബന്ധിത വികാസത്തെ ഗുണപരമായി സഹായിക്കുമെന്ന ഗവേഷണം ചൂണ്ടിക്കാണിക്കുന്നു. ഇത്തരം കുട്ടികൾ സ്കൂളിലും ഉന്നത വിദ്യാഭ്യാസരംഗത്തും നല്ല പ്രകടനം നടത്തുകയും ദീർഘകാലത്തിൽ സമൂഹത്തിന് സാമൂഹികമായും സാമ്പത്തികമായും പ്രയോജനം ചെയ്യുകയും ചെയ്യുന്നു. അതു പോലെ തന്നെ കുട്ടികൾക്ക് ശൈശവ ദശയിൽ ആവശ്യമായ പോഷണവും വ്യത്തിയുള്ള അന്തരീക്ഷവും സംരക്ഷണവും ഉത്തരജനവും നൽകുന്നത് കുട്ടികളുടെ വികാസത്തെ സഹായിക്കുകയും ഗുണപരമായ ഫലങ്ങൾ ഉണ്ടാക്കുകയും ചെയ്യുന്നു.

ശൈശവ ഘട്ടത്തിൽ കുട്ടികളുടെ വളർച്ചയ്ക്ക് അത്യാവശ്യമായ രണ്ട് ഘടകങ്ങൾ ഏതെല്ലാം?

1. പോഷണവും പ്രതിരോധ കുത്തിവയ്പ്പുകളും
2. ആരോഗ്യവും വിദ്യാഭ്യാസവും
3. ആരോഗ്യവും സ്കൂൾ അന്തരീക്ഷവും
4. ക്രിഷ്ണം പ്രതിദിന പരിപാലന കേന്ദ്രങ്ങളും

Options :

- 485584146309. 1
- 485584146310. 2
- 485584146311. 3
- 485584146312. 4

Question Number : 194 Question Id : 48558436579 Question Type : MCQ Option Shuffling : No Is Question Mandatory : No Calculator : None Response Time : N.A Think Time : N.A Minimum Instruction Time : 0 Correct Marks : 5 Wrong Marks : 1

Question Key Details :

Key	Value
Comprehension	Comp1

Read the passage carefully. Attempt Question

Anganwadi Centers (AWCs) are the most common and publicly available facilities, initially constituted in 1975 to strengthen the public health system by providing immunization and health check-ups, and later to provide supplementary nutrition non-formal pre-school education and day-care.

The two key elements of early childhood development include education and health. A child's early years (0 to 8 years) form the foundation of all learning and are therefore the most extraordinary period of development in a child's life. Research has shown that greater cognitive abilities and being developmentally on track with literacy and numeracy in childhood provide for better learning in school and higher educational attainment, leading to major social and economic gains for society in the long run. Similarly, providing children with a nurturing environment in early years, with adequate nutrition, hygiene, protection and responsive stimulation, boosts healthy childhood development and delivers positive outcomes.

The period of laying the foundation of all learning and rapid development during early childhood development is _____.

1. 3 to 6 years
2. 0 to 8 years
3. 1 to 2 years
4. 0 to 2 years

Options :

- 485584146313. 1
- 485584146314. 2
- 485584146315. 3
- 485584146316. 4

Question Number : 194 Question Id : 48558436579 Question Type : MCQ Option Shuffling : No Is Question Mandatory : No Calculator : None Response Time : N.A Think Time : N.A Minimum Instruction Time : 0

Correct Marks : 5 Wrong Marks : 1

Question Key Details :

Key	Value
Comprehension	Comp1

Read the passage carefully. Attempt Question 41-45 (Translation missing)

പൊതു ആരോഗ്യ സംവിധാനം ശക്തിപ്പെടുത്തുന്നതിനുള്ള ഏറ്റവും സാധാരണവും പൊതുവിൽ ലഭ്യമായതുമായ സൗകര്യങ്ങളാണ് 1975-ൽ ആരംഭിച്ച അംഗീകൃത കേന്ദ്രങ്ങൾ. പ്രതിരോധ കുത്തിവയ്പ്പുകൾ, ആരോഗ്യ പരിശോധനകൾ, പുനർ പോഷകാഹാര വിതരണം, അനൗപചാരിക പ്രീ-സ്കൂൾ വിദ്യാഭ്യാസം, പ്രതിദിന പരിപാലനം എന്നിവ അംഗീകൃത കേന്ദ്രങ്ങളുടെ നൽകി വരുന്നു.

വിദ്യാഭ്യാസവും ആരോഗ്യവുമാണ് ശൈശവ ദശയിൽ കുട്ടികളുടെ വളർച്ചയ്ക്ക് അത്യാവശ്യമായ രണ്ട് ഘടകങ്ങൾ. ഏകദേശം 8 വയസുള്ള വർഷങ്ങളിലാണ് ഒരു കുട്ടിയിൽ എല്ലാത്തരം പഠനങ്ങൾക്കും അടിസ്ഥാനമിടുന്നത്. അതു കൊണ്ടു തന്നെ, കുട്ടിയുടെ വളർച്ചയിലെ അസാധാരണമായ കാലഘട്ടമാണ് ഇത്. സാക്ഷരതയും അക്ഷരപരിചയവും കുട്ടികളുടെ ബൗദ്ധിക വികാസത്തെ ഗുണപരമായി സഹായിക്കുമെന്ന ഗവേഷണം ചൂണ്ടിക്കാണിക്കുന്നു. ഇത്തരം കുട്ടികൾ സ്കൂളിലും ഉന്നത വിദ്യാഭ്യാസരംഗത്തും നല്ല പ്രകടനം നടത്തുകയും ദീർഘകാലത്തിൽ സമൂഹത്തിന് സാമൂഹികമായും സാമ്പത്തികമായും പ്രയോജനം ചെയ്യുകയും ചെയ്യുന്നു. അതു പോലെ തന്നെ കുട്ടികൾക്ക് ശൈശവ ദശയിൽ ആവശ്യമായ പോഷണവും വ്യക്തിയുള്ള അന്തരീക്ഷവും സംരക്ഷണവും ഉത്തരജനവും നൽകുന്നത് കുട്ടികളുടെ വികാസത്തെ സഹായിക്കുകയും ഗുണപരമായ ഫലങ്ങൾ ഉണ്ടാക്കുകയും ചെയ്യുന്നു.

ശൈശവ ദശയിൽ, എല്ലാ വിധ പഠനങ്ങളുടെയും ദ്രുതഗതിയിലുള്ള വളർച്ചയുടെയും സമയമായി കണക്കാക്കുന്നത്:-

1. 3 മുതൽ 6 വർഷം വരെ
2. 0 മുതൽ 8 വർഷം വരെ
3. 1 മുതൽ 2 വർഷം വരെ
4. 0 മുതൽ 2 വർഷം വരെ

Options :

- 485584146313. 1
- 485584146314. 2
- 485584146315. 3
- 485584146316. 4

Question Number : 195 Question Id : 48558436580 Question Type : MCQ Option Shuffling : No Is Question Mandatory : No Calculator : None Response Time : N.A Think Time : N.A Minimum Instruction Time : 0

Correct Marks : 5 Wrong Marks : 1

Question Key Details :

Key	Value

Read the passage carefully. Attempt Question

Anganwadi Centers (AWCs) are the most common and publicly available facilities, initially constituted in 1975 to strengthen the public health system by providing immunization and health check-ups, and later to provide supplementary nutrition non-formal pre-school education and day-care.

The two key elements of early childhood development include education and health. A child's early years (0 to 8 years) form the foundation of all learning and are therefore the most extraordinary period of development in a child's life. Research has shown that greater cognitive abilities and being developmentally on track with literacy and numeracy in childhood provide for better learning in school and higher educational attainment, leading to major social and economic gains for society in the long run. Similarly, providing children with a nurturing environment in early years, with adequate nutrition, hygiene, protection and responsive stimulation, boosts healthy childhood development and delivers positive outcomes.

To boost healthy childhood and getting positive outcomes in ECCE, which of the following needs to be provided?

- A. Adequate nutrition
- B. Responsive stimulation
- C. Hygiene
- D. Toys and games
- E. Immunisation

Choose the correct answer from the options given below:

- 1. A, B and C only
- 2. A, B and D only
- 3. B, C and D only
- 4. C, D and E only

Options :

- 485584146317. 1
- 485584146318. 2
- 485584146319. 3
- 485584146320. 4

Question Number : 195 Question Id : 48558436580 Question Type : MCQ Option Shuffling : No Is Question Mandatory : No Calculator : None Response Time : N.A Think Time : N.A Minimum Instruction Time : 0

Correct Marks : 5 Wrong Marks : 1

Question Key Details :

Key	Value
Comprehension	Comp1

Read the passage carefully. Attempt Question 41-45 (Translation missing)

പൊതു ആരോഗ്യ സംവിധാനം ശക്തിപ്പെടുത്തുന്നതിനുള്ള ഏറ്റവും സാധാരണവും പൊതുവിൽ ലഭ്യമായതുമായ സൗകര്യങ്ങളാണ് 1975-ൽ ആരംഭിച്ച അംഗൻവാടി കേന്ദ്രങ്ങൾ. പ്രതിരോധ കൃത്രിമവസ്തുക്കൾ, ആരോഗ്യ പരിശോധനകൾ, പുരക പോഷകാഹാര വിതരണം, അനുപചാരിക പ്രീ-സ്കൂൾ വിദ്യാഭ്യാസം, പ്രതിദിന പരിപാലനം എന്നിവ അംഗൻവാടികളിലൂടെ നൽകി വരുന്നു.

വിദ്യാഭ്യാസവും ആരോഗ്യവുമാണ് ഹൈശബ്ദ ദശയിൽ കുട്ടികളുടെ വളർച്ചയിൽ അത്യാവശ്യമായ രണ്ട് ഘടകങ്ങൾ. പൂർണ്ണ മൂത്ത 8 വയസുള്ള വർഷങ്ങളിലാണ് ഒരു കുട്ടിയിൽ ഏല്പാത്തരം പഠനങ്ങൾക്കും അടിസ്ഥാനമിടുന്നത്. അതു കൊണ്ടു തന്നെ, കുട്ടിയുടെ വളർച്ചയിലെ അസാധാരണമായ കാലഘട്ടമാണ് ഇത്. സാക്ഷരതയും അക്ഷപതിചയവും കുട്ടികളുടെ ബുദ്ധിമുട്ടുകൾ വികാസത്തെ ഗുണപരമായി സഹായിക്കുമെന്ന് ഗവേഷണം ചൂണ്ടിക്കാണിക്കുന്നു. ഇത്തരം കുട്ടികൾ സ്കൂളിലും ഉന്നത വിദ്യാഭ്യാസരംഗത്തും നല്ല പ്രകടനം നടത്തുകയും ദിനപ്രതിപാലനത്തിൽ സമൂഹത്തിന് സാമൂഹികമായും സാമ്പത്തികമായും പ്രയോജനം ചെയ്യുകയും ചെയ്യുന്നു. അതു പോലെ തന്നെ കുട്ടികൾക്ക് ഹൈശബ്ദ ദശയിൽ ആവശ്യമായ പോഷണവും വ്യക്തിയുള്ള അന്തരീക്ഷവും സംരക്ഷണവും ഉത്തരജനവും നൽകുന്നത് കുട്ടികളുടെ വികാസത്തെ സഹായിക്കുകയും ഗുണപരമായ ഫലങ്ങൾ ഉണ്ടാക്കുകയും ചെയ്യുന്നു.

ആരോഗ്യകരമായ ശൈശവം പ്രോത്സാഹിപ്പിക്കുന്നതിനും ECCEൽ ഗുണപരമായ അനന്തരഫലങ്ങൾ ഉണ്ടാക്കുന്നതിനും താഴെ തന്നിരിക്കുന്നതിൽ ഏതെല്ലാം നൽകേണ്ടതുണ്ട്?

- A. ആവശ്യമായ പോഷണം
- B. പ്രതികരണാത്മകമായ ഉത്തരജനനം
- C. വ്യത്തി
- D. കുളിപ്പാട്ടുങ്ങൾക്കും കുളികളും
- E. പ്രതിരോധ കുത്തിവയ്പ്പ്

താഴെ തന്നിരിക്കുന്ന ഓപ്ഷനുകളിൽ നിന്നും ശരിയുത്തരം തിരഞ്ഞെടുക്കുക:

- 1. A, B, C മാത്രം
- 2. A, B, D മാത്രം
- 3. B, C, D മാത്രം
- 4. C, D, E മാത്രം

Options :

- 485584146317. 1
- 485584146318. 2
- 485584146319. 3
- 485584146320. 4

Sub-Section Number : 3
 Sub-Section Id : 4855842701
 Question Shuffling Allowed : No
 Is Section Default? : null

Question Number : 196 Question Id : 48558436581 Question Type : MCQ Option Shuffling : No Is Question Mandatory : No Calculator : None
 Response Time : N.A Think Time : N.A Minimum Instruction Time : 0
 Correct Marks : 5 Wrong Marks : 1

Question Key Details :

Key	Value
Comprehension	Comp2

Read the passage carefully. Attempt Question

Consumers not only purchase products but a whole gamut of services like those of banks, other financial institutions, airlines and travel agencies; hospitals and other medical practitioners; public utilities like garbage collection, cleanliness and maintenance of roads, parks, etc; electricity water telephone, post and telegraph; educational institutions and so on.

Consumers face a number of problems with regard to these services like excessive billing, being charged but not delivering the service, gap between promised level of service and service that is delivered, overstating the service attributes and enticing the consumer, making false claims and so on.

Gap between service delivery and external communication is a consumer issue. Consumer expectations are affected by promises made by the service provider in his external communication which may be through brochures, advertisements, personal selling etc. E.g. If a resort hotel brochure shows a beautiful room but the guests arrive and find the room to be cheap and very ordinary. Many a times people make advance bookings based on the brochures or seeing the website or some other advertisements. In such bookings sometimes advance also has to be paid. If the customer does not like the room ambience he may be left with little choice since refunds are not given by many hotels.

Many private educational institutions assure jobs to students after completion of course which eventually does not happen. Which service-related consumer problem is depicted in this example ?

1. Excessive billings
2. Being charged but not delivering the service
3. Making false claims
4. Overstating the service attributes

Options :

- 485584146321. 1
- 485584146322. 2
- 485584146323. 3
- 485584146324. 4

Question Number : 196 Question Id : 48558436581 Question Type : MCQ Option Shuffling : No Is Question Mandatory : No Calculator : None Response Time : N.A Think Time : N.A Minimum Instruction Time : 0

Correct Marks : 5 Wrong Marks : 1

Question Key Details :

Key	Value
Comprehension	Comp2

Read the passage carefully. Attempt Question

ഉപഭോക്താക്കൾ കേവലം സാധനങ്ങൾ മാത്രമേ വാങ്ങുന്നവരല്ല. ബുക്കുകളും മറ്റ് ധനകാര്യ സ്ഥാപനങ്ങളും നൽകുന്ന സേവനങ്ങൾ, ദ്രാവൽ എഞ്ചിനീയറുകളും എയർലൈനുകളും നൽകുന്ന സേവനങ്ങൾ, ആശുപത്രികളും ആരോഗ്യപ്രവർത്തകരും നൽകുന്ന സേവനങ്ങൾ, മാമിസ്ട്രം ശൈലിക്കൽ നോഡുകളുടെയും പരീക്ഷകളുടെയും ശുചീകരണം, വൈദ്യുതി, വെള്ളം, ടെലിഫോൺ, പോസ്റ്റ് സേവനങ്ങൾ, ടെലിഗ്രാഫ്, വിദ്യാഭ്യാസ സ്ഥാപനങ്ങൾ എന്നിവ ഉപഭോക്താക്കൾ വാങ്ങുന്ന സേവനങ്ങളിൽ പെടുന്നു.

ഇത്തരം സേവനങ്ങളുമായി ബന്ധപ്പെട്ട് നിരവധി പ്രശ്നങ്ങളാണ് ഉപഭോക്താക്കൾ അഭിമുഖീകരിക്കുന്നത്. അതിൽ തുക ഈടാക്കൽ, പണം ഈടാക്കിയിട്ടും സേവനം നൽകാതിരിക്കൽ, വാഗ്ദാനം ചെയ്ത സേവനവും നൽകുന്ന സേവനവും തമ്മിലുള്ള അന്തരം, സേവന ഗുണങ്ങൾ പെരുപ്പിച്ച് കാണിച്ച് ഉപഭോക്താവിനെ ആകർഷിക്കൽ, തെറ്റായ അവകാശവാദം ഉന്നയിക്കൽ എന്നിവ അവയിൽ ചിലതാണ്.

വാഗ്ദാനം ചെയ്തപ്പോൾ സേവനവും നൽകപ്പെട്ട സേവനവും തമ്മിലുള്ള അന്തരം ഒരു ഉപഭോക്തൃ പ്രശ്നമാണ്. സേവന ഓൺലൈൻ രേഖാക്കുറിപ്പുകളിലൂടെയോ പരസ്യങ്ങളിലൂടെയോ വ്യക്തിഗത വിൽപനയിലൂടെയോ നൽകുന്ന വാഗ്ദാനങ്ങൾ ഉപഭോക്താവിന്റെ പ്രതീക്ഷകളെ സ്വാധീനിക്കുന്നു. ഒരു നിരസാർത്ഥി ഹോട്ടലിന്റെ രേഖാക്കുറിപ്പ് മനോഹരമായ ഒരു മുനിയുടെ ചിത്രം കാണിക്കുന്നു. ഇത് കണ്ട് ഹോട്ടലിൽ എത്തുന്ന അതിഥിക്ക് വെറും ഗുണനിലവാരം കുറഞ്ഞ സാധാരണ മുനി ആയിരിക്കും. മിക്കവാറും ആളുകൾ പരസ്യം കണ്ടും വെബ്സൈറ്റ് സന്ദർശിച്ചും രേഖാക്കുറിപ്പ് നോക്കിയുമാണ് മുനി ബുക്ക് ചെയ്യുന്നത്. ഇത്തരം കേസുകളിൽ മിക്കവാറും മുൻകൂറായി പണം അടച്ചിട്ടും ഉണ്ടാകും. മിക്കവാറും ഹോട്ടലുകൾ മുൻകൂറായി നൽകിയ പണം തിരിച്ച് നൽകാത്ത സാഹചര്യത്തിൽ, ഉപഭോക്താവിന് മുനി ഇഷ്യുപ്പട്ടിടിക്കലിലും മറ്റ് മാർഗങ്ങൾ ഉണ്ടാവില്ല.

മിക്ക സ്വകാര്യ വിദ്യാഭ്യാസ സ്ഥാപനങ്ങളും പഠനം പൂർത്തിയാക്കുന്ന വിദ്യാർത്ഥികൾക്ക് ജോലി ഉറപ്പ് നൽകാറുണ്ടെങ്കിലും അങ്ങനെ സംഭവിക്കാറില്ല. ഏത് ഉപഭോക്തൃ സേവന പ്രശ്നമാണ് ഈ ഉദാഹരണത്തിൽ കാണുന്നത്?

1. അമിത തുക ഈടാക്കൽ
2. തുക ഈടാക്കിയിട്ടും സേവനം നൽകാതിരിക്കൽ
3. തെറ്റായ അവകാശവാദം ഉന്നയിക്കുക
4. സേവന ഗുണങ്ങൾ പെരുപ്പിച്ച് കാണിക്കുക

Options :

- 485584146321. 1
- 485584146322. 2
- 485584146323. 3
- 485584146324. 4

Question Number : 197 Question Id : 48558436582 Question Type : MCQ Option Shuffling : No Is Question Mandatory : No Calculator : None Response Time : N.A Think Time : N.A Minimum Instruction Time : 0

Correct Marks : 5 Wrong Marks : 1

Question Key Details :

Key	Value
Comprehension	Comp2

Read the passage carefully. Attempt Question

Consumers not only purchase products but a whole gamut of services like those of banks, other financial institutions, airlines and travel agencies; hospitals and other medical practitioners; public utilities like garbage collection, cleanliness and maintenance of roads, parks, etc; electricity water telephone, post and telegraph; educational institutions and so on.

Consumers face a number of problems with regard to these services like excessive billing, being charged but not delivering the service, gap between promised level of service and service that is delivered, overstating the service attributes and enticing the consumer, making false claims and so on.

Gap between service delivery and external communication is a consumer issue. Consumer expectations are affected by promises made by the service provider in his external communication which may be through brochures, advertisements, personal selling etc. E.g. If a resort hotel brochure shows a beautiful room but the guests arrive and find the room to be cheap and very ordinary. Many a times people make advance bookings based on the brochures or seeing the website or some other advertisements. In such bookings sometimes advance also has to be paid. If the customer does not like the room ambience he may be left with little choice since refunds are not given by many hotels.

Which of the following is NOT an example of services offered to consumers ?

1. Consumer durables
2. Banking services
3. Airlines
4. Educational institutions

Options :

485584146325. 1

485584146326. 2

485584146327. 3

485584146328. 4

Question Number : 197 Question Id : 48558436582 Question Type : MCQ Option Shuffling : No Is Question Mandatory : No Calculator : None Response Time : N.A Think Time : N.A Minimum Instruction Time : 0

Correct Marks : 5 Wrong Marks : 1

Question Key Details :

Key	Value
Comprehension	Comp2

Read the passage carefully. Attempt Question

ഉപഭോക്താക്കൾ കേവലം സാധനങ്ങൾ മാത്രമേ വാങ്ങുന്നവരല്ല. ബാങ്കുകളും മറ്റ് ധനകാര്യ സ്ഥാപനങ്ങളും നൽകുന്ന സേവനങ്ങൾ, ഭാഗ്യവശ്ചി എൻജിനീയർമാരും ഏയർലൈനുകളും നൽകുന്ന സേവനങ്ങൾ, ആശുപത്രികളും ആരോഗ്യപ്രവർത്തകരും നൽകുന്ന സേവനങ്ങൾ, മാമിസ്ട്രം ശൈലികൾ, ഗോഡൗനുകളുടെയും പാർക്കുകളുടെയും ശുചീകരണം, വൈദ്യുതി, വെള്ളം, ടെലിഫോൺ, പോസ്റ്റൽ സേവനങ്ങൾ, ടെലിഗ്രാഫ്, വിദ്യാഭ്യാസ സ്ഥാപനങ്ങൾ എന്നിവ ഉപഭോക്താക്കൾ വാങ്ങുന്ന സേവനങ്ങളിൽ പെടുന്നു.

ഇത്തരം സേവനങ്ങളുമായി ബന്ധപ്പെട്ട് നിരവധി പ്രശ്നങ്ങളാണ് ഉപഭോക്താക്കൾ അഭിമുഖീകരിക്കുന്നത്. അതിൽ തുക ഇടപാടുകൾ, പണം ഇടപാടുകൾ, സേവനം നൽകാതിരിക്കൽ, വാഗ്ദാനം ചെയ്ത സേവനവും നൽകുന്ന സേവനവും തമ്മിലുള്ള അന്തരം, സേവന ഗുണങ്ങൾ പെരുപ്പിച്ച് കാണിച്ച് ഉപഭോക്താവിനെ ആകർഷിക്കൽ, തെറ്റായ അവകാശവാദം ഉന്നയിക്കൽ എന്നിവ അവയിൽ ചിലതാണ്.

വാഗ്ദാനം ചെയ്തപ്പോൾ സേവനവും നൽകപ്പെട്ട സേവനവും തമ്മിലുള്ള അന്തരം ഒരു ഉപഭോക്തൃ പ്രശ്നമാണ്. സേവന ദാതാവ് ഉപഭോക്തൃകളിലൂടെയോ പരസ്യങ്ങളിലൂടെയോ വ്യക്തിഗത വിൽപനയിലൂടെയോ നൽകുന്ന വാഗ്ദാനങ്ങൾ ഉപഭോക്താവിന്റെ പ്രതീക്ഷകളെ സാധിപ്പിക്കുന്നു. ഒരു നിരസാർത്ഥി ഹോട്ടലിന്റെ ഉപഭോക്താവിന് മനോഹരമായ ഒരു മുനിയുടെ ചിത്രം കാണിക്കുന്നു. ഇത് കണ്ട് ഹോട്ടലിൽ എത്തുന്ന അതിഥിക്ക് മറുപടിയായി ഗുണനിലവാരം കുറഞ്ഞ സാധാരണ മുനി ആയിരിക്കും. മിക്കവാറും ആളുകൾ പരസ്യം കണ്ടും വെബ്സൈറ്റ് സന്ദർശിച്ചും ഉപഭോക്താവിന് നോക്കിയതാണ് മുനി ബുക്ക് ചെയ്യുന്നത്. ഇത്തരം കേസുകളിൽ മിക്കവാറും മുൻകൂറായി പണം അടച്ചിട്ടും ഉണ്ടാകും. മിക്കവാറും ഹോട്ടലുകൾ മുൻകൂറായി നൽകിയ പണം തിരിച്ച് നൽകാത്ത സാഹചര്യത്തിൽ, ഉപഭോക്താവിന് മുനി ഇഷ്യൂപ്പട്ടിലെങ്കിലും മറ്റ് മാർഗ്ഗങ്ങൾ ഉണ്ടാവില്ല.

താഴെ കൊടുത്തിരിക്കുന്നവയിൽ ഉപഭോക്താക്കൾക്ക് നൽകുന്ന സേവനങ്ങളിൽ പെടാത്തത് ഏത്?

1. ഈടു നിൽക്കുന്ന ഉപഭോക്തൃ സാധനങ്ങൾ
2. ബാങ്കിംഗ് സേവനങ്ങൾ
3. ഏയർലൈനുകൾ
4. വിദ്യാഭ്യാസ സ്ഥാപനങ്ങൾ

Options :

- 485584146325. 1
- 485584146326. 2
- 485584146327. 3
- 485584146328. 4

Question Number : 198 Question Id : 48558436583 Question Type : MCQ Option Shuffling : No Is Question Mandatory : No Calculator : None Response Time : N.A Think Time : N.A Minimum Instruction Time : 0

Correct Marks : 5 Wrong Marks : 1

Question Key Details :

Key	Value
Comprehension	Comp2

Read the passage carefully. Attempt Question

Consumers not only purchase products but a whole gamut of services like those of banks, other financial institutions, airlines and travel agencies; hospitals and other medical practitioners; public utilities like garbage collection, cleanliness and maintenance of roads, parks, etc; electricity water telephone, post and telegraph; educational institutions and so on.

Consumers face a number of problems with regard to these services like excessive billing, being charged but not delivering the service, gap between promised level of service and service that is delivered, overstating the service attributes and enticing the consumer, making false claims and so on.

Gap between service delivery and external communication is a consumer issue. Consumer expectations are affected by promises made by the service provider in his external communication which may be through brochures, advertisements, personal selling etc. E.g. If a resort hotel brochure shows a beautiful room but the guests arrive and find the room to be cheap and very ordinary. Many a times people make advance bookings based on the brochures or seeing the website or some other advertisements. In such bookings sometimes advance also has to be paid. If the customer does not like the room ambience he may be left with little choice since refunds are not given by many hotels.

Many a times, we are required to pay a basic telephone rental charge irrespective of it being out of order. Which service related to consumer problem is depicted in this example?

1. Excessive billing
2. Being charged but not delivering the service
3. Making false claims
4. Overstating the service attributes

Options :

- 485584146329. 1
- 485584146330. 2
- 485584146331. 3
- 485584146332. 4

Question Number : 198 Question Id : 48558436583 Question Type : MCQ Option Shuffling : No Is Question Mandatory : No Calculator : None Response Time : N.A Think Time : N.A Minimum Instruction Time : 0

Correct Marks : 5 Wrong Marks : 1

Question Key Details :

Key	Value
Comprehension	Comp2

Read the passage carefully. Attempt Question

ഉപഭോക്താക്കൾ കേവലം സാധനങ്ങൾ മാത്രമേ വാങ്ങുന്നവരല്ല. ബാങ്കുകളും മറ്റ് ധനകാര്യ സ്ഥാപനങ്ങളും നൽകുന്ന സേവനങ്ങൾ, ദ്രാവൽ ഏജൻസികളും എയർലൈനുകളും നൽകുന്ന സേവനങ്ങൾ, ആശുപത്രികളും ആരോഗ്യപ്രവർത്തകരും നൽകുന്ന സേവനങ്ങൾ, മാമിസ്ട്രം ശേഖരിക്കൽ കോഡുകളുടെയും പരീക്ഷകളുടെയും ശുചീകരണം, വൈദ്യുതി, വെള്ളം, ടെലിഫോൺ, പോസ്റ്റ് സേവനങ്ങൾ, ടെലിഗ്രാഫ്, വിദ്യാഭ്യാസ സ്ഥാപനങ്ങൾ എന്നിവ ഉപഭോക്താക്കൾ വാങ്ങുന്ന സേവനങ്ങളിൽ പെടുന്നു.

ഇത്തരം സേവനങ്ങളുമായി ബന്ധപ്പെട്ട് നിരവധി പ്രശ്നങ്ങളാണ് ഉപഭോക്താക്കൾ അഭിമുഖീകരിക്കുന്നത്. അതിൽ തുക ഈടാക്കൽ, പണം ഈടാക്കിയിട്ടും സേവനം നൽകാതിരിക്കൽ, വാഗ്ദാനം ചെയ്ത സേവനവും നൽകുന്ന സേവനവും തമ്മിലുള്ള അന്തരം, സേവന ഗുണങ്ങൾ പെരുപ്പിച്ച് കാണിച്ചു ഉപഭോക്താവിനെ ആകർഷിക്കൽ, തെറ്റായ അവകാശവാദം ഉന്നയിക്കൽ എന്നിവ അവയിൽ ചിലതാണ്.

വാഗ്ദാനം ചെയ്തപ്പോൾ സേവനവും നൽകപ്പെട്ട സേവനവും തമ്മിലുള്ള അന്തരം ഒരു ഉപഭോക്തൃ പ്രശ്നമാണ്. സേവന ഓൺലൈൻ രേഖാക്കുറിപ്പുകളിലൂടെയോ പരസ്യങ്ങളിലൂടെയോ വ്യക്തിഗത വിൽപനയിലൂടെയോ നൽകുന്ന വാഗ്ദാനങ്ങൾ ഉപഭോക്താവിന്റെ പ്രതീക്ഷകളെ സ്വാധീനിക്കുന്നു. ഒരു നിരസാർത്ഥി ഹോട്ടലിന്റെ രേഖാക്കുറി തന്നോടൊപ്പമേ ഒരു മുനിയുടെ ചിത്രം കാണിക്കുന്നു. ഇത് കണ്ട് ഹോട്ടലിൽ എത്തുന്ന അതിഥിക്ക് വെറും ഗുണനിലവാരം കുറഞ്ഞ സാധാരണ മുനി ആയിരിക്കും. മിക്കവാറും ആളുകൾ പരസ്യം കണ്ടും വെബ്സൈറ്റ് സന്ദർശിച്ചും രേഖാക്കുറി നോക്കിയുമാണ് മുനി ബുക്ക് ചെയ്യുന്നത്. ഇത്തരം കേസുകളിൽ മിക്കവാറും മുൻകൂറായി പണം അടച്ചിട്ടും ഉണ്ടാകും. മിക്കവാറും ഹോട്ടലുകൾ മുൻകൂറായി നൽകിയ പണം തിരിച്ച് നൽകാത്ത സാഹചര്യത്തിൽ, ഉപഭോക്താവിന് മുനി ഇഷ്യുപ്പട്ടിട്രെക്കിലും മറ്റ് മാർഗങ്ങൾ ഉണ്ടാവില്ല.

മിക്കവാറും സാഹചര്യങ്ങളിൽ, ടെലിഫോൺ പ്രവർത്തനരഹിതമായിരിക്കുമ്പോൾ പോലും നമുക്ക് അതിന്റെ അടിസ്ഥാന വാടക അടയ്ക്കേണ്ടി വരും. ഉപഭോക്തൃ സേവനവുമായി ബന്ധപ്പെട്ട ഏത് പ്രശ്നമാണ് ഈ ഉദാഹരണത്തിൽ കാണുന്നത്?

1. അമിതമായ തുക ഈടാക്കൽ
2. തുക ഈടാക്കിയിട്ടും സേവനം നൽകാതിരിക്കൽ
3. തെറ്റായ അവകാശ വാദം ഉന്നയിക്കുക
4. സേവന ഗുണങ്ങൾ പെരുപ്പിച്ച് കാണിക്കുക

Options :

- 485584146329. 1
- 485584146330. 2
- 485584146331. 3
- 485584146332. 4

Question Number : 199 Question Id : 48558436584 Question Type : MCQ Option Shuffling : No Is Question Mandatory : No Calculator : None Response Time : N.A Think Time : N.A Minimum Instruction Time : 0

Correct Marks : 5 Wrong Marks : 1

Question Key Details :

Key	Value
Comprehension	Comp2

Read the passage carefully. Attempt Question

Consumers not only purchase products but a whole gamut of services like those of banks, other financial institutions, airlines and travel agencies; hospitals and other medical practitioners; public utilities like garbage collection, cleanliness and maintenance of roads, parks, etc; electricity water telephone, post and telegraph; educational institutions and so on.

Consumers face a number of problems with regard to these services like excessive billing, being charged but not delivering the service, gap between promised level of service and service that is delivered, overstating the service attributes and enticing the consumer, making false claims and so on.

Gap between service delivery and external communication is a consumer issue. Consumer expectations are affected by promises made by the service provider in his external communication which may be through brochures, advertisements, personal selling etc. E.g. If a resort hotel brochure shows a beautiful room but the guests arrive and find the room to be cheap and very ordinary. Many a times people make advance bookings based on the brochures or seeing the website or some other advertisements. In such bookings sometimes advance also has to be paid. If the customer does not like the room ambience he may be left with little choice since refunds are not given by many hotels.

Which of the following is NOT an example of aid used by service providers for external communication ?

1. Brochures
2. Board meeting
3. Advertisements
4. Personal selling

Options :

485584146333. 1

485584146334. 2

485584146335. 3

485584146336. 4

Question Number : 199 Question Id : 48558436584 Question Type : MCQ Option Shuffling : No Is Question Mandatory : No Calculator : None Response Time : N.A Think Time : N.A Minimum Instruction Time : 0

Correct Marks : 5 Wrong Marks : 1

Question Key Details :

Key	Value
Comprehension	Comp2

Read the passage carefully. Attempt Question

ഉപഭോക്താക്കൾ കേവലം സാധനങ്ങൾ മാത്രമേ വാങ്ങുന്നവരല്ല. ബാങ്കുകളും മറ്റ് ധനകാര്യ സ്ഥാപനങ്ങളും നൽകുന്ന സേവനങ്ങൾ, ഭാഗ്യവശ്ചി എൻജിനീയർമാരും ഏയർലൈനുകളും നൽകുന്ന സേവനങ്ങൾ, ആശുപത്രികളും ആരോഗ്യപ്രവർത്തകരും നൽകുന്ന സേവനങ്ങൾ, മാമിസ്ട്രം ശൈലികൾ, ഗോഡൗനുകളുടെയും പാർക്കുകളുടെയും ശുചീകരണം, വൈദ്യുതി, വെള്ളം, ടെലിഫോൺ, പോസ്റ്റ് സേവനങ്ങൾ, ടെലിഗ്രാഫ്, വിദ്യാഭ്യാസ സ്ഥാപനങ്ങൾ എന്നിവ ഉപഭോക്താക്കൾ വാങ്ങുന്ന സേവനങ്ങളിൽ പെടുന്നു.

ഇത്തരം സേവനങ്ങളുമായി ബന്ധപ്പെട്ട് നിരവധി പ്രശ്നങ്ങളാണ് ഉപഭോക്താക്കൾ അഭിമുഖീകരിക്കുന്നത്. അതിൽ മുകളിൽ ഉപഭോക്താക്കൾ പണം ഇടാക്കിയിട്ടും സേവനം നൽകിയിരിക്കാത്ത, വാഗ്ദാനം ചെയ്ത സേവനവും നൽകുന്ന സേവനവും തമ്മിലുള്ള അന്തരം, സേവന ഗുണങ്ങൾ പെരുപ്പിച്ച് കാണിച്ചു ഉപഭോക്താവിനെ ആകർഷിക്കാൻ, തെറ്റായ അവകാശവാദം ഉന്നയിക്കാൻ എന്നിവ അവയിൽ ചിലതാണ്.

വാഗ്ദാനം ചെയ്തപ്പോൾ സേവനവും നൽകപ്പെട്ട സേവനവും തമ്മിലുള്ള അന്തരം ഒരു ഉപഭോക്തൃ പ്രശ്നമാണ്. സേവന ദാതാവ് ഉപഭോക്തൃകളിലൂടെയോ പരസ്യങ്ങളിലൂടെയോ വ്യക്തിഗത വിൽപനയിലൂടെയോ നൽകുന്ന വാഗ്ദാനങ്ങൾ ഉപഭോക്താവിന്റെ പ്രതീക്ഷകളെ സാധിപ്പിക്കുന്നു. ഒരു നിരസാർത്ഥി ഹോട്ടലിന്റെ ഉപഭോക്താക്കൾ മനോഹരമായ ഒരു മുറിയുടെ ചിത്രം കാണിക്കുന്നു. ഇത് കണ്ട് ഹോട്ടലിൽ എത്തുന്ന അതിഥിക്ക് മടിക്കുന്നതുപോലെ ഗുണനിലവാരം കുറഞ്ഞ സാധാരണ മുറി ആയിരിക്കും. മിക്കവാറും ആളുകൾ പരസ്യം കണ്ടും വെബ്സൈറ്റ് സന്ദർശിച്ചും ഉപഭോക്താക്കൾ നോക്കിയതാണ് മുറി ബുക്ക് ചെയ്യുന്നത്. ഇത്തരം കേസുകളിൽ മിക്കവാറും മുൻകൂറായി പണം അടച്ചിട്ടും ഉണ്ടാകും. മിക്കവാറും ഹോട്ടലുകൾ മുൻകൂറായി നൽകിയ പണം തിരിച്ചു നൽകാത്ത സാഹചര്യത്തിൽ, ഉപഭോക്താവിന് മുറി ഇഷ്യൂപ്പട്ടില്ലെങ്കിലും മറ്റ് മാർഗ്ഗങ്ങൾ ഉണ്ടാവില്ല.

സേവനദാതാക്കൾ പുറത്തേക്ക് വിവരങ്ങൾ നൽകുന്നതിന് ഉപയോഗിക്കാത്ത മാർഗ്ഗം ഏത്

- 1. ബ്രോഷറുകൾ
- 2. ബോർഡ് മീറ്റിംഗ്
- 3. പരസ്യങ്ങൾ
- 4. വ്യക്തിഗത വിൽപന

Options :

- 485584146333. 1
- 485584146334. 2
- 485584146335. 3
- 485584146336. 4

Question Number : 200 Question Id : 48558436585 Question Type : MCQ Option Shuffling : No Is Question Mandatory : No Calculator : None Response Time : N.A Think Time : N.A Minimum Instruction Time : 0

Correct Marks : 5 Wrong Marks : 1

Question Key Details :

Key	Value
Comprehension	Comp2

Read the passage carefully. Attempt Question

Consumers not only purchase products but a whole gamut of services like those of banks, other financial institutions, airlines and travel agencies; hospitals and other medical practitioners; public utilities like garbage collection, cleanliness and maintenance of roads, parks, etc; electricity water telephone, post and telegraph; educational institutions and so on.

Consumers face a number of problems with regard to these services like excessive billing, being charged but not delivering the service, gap between promised level of service and service that is delivered, overstating the service attributes and enticing the consumer, making false claims and so on.

Gap between service delivery and external communication is a consumer issue. Consumer expectations are affected by promises made by the service provider in his external communication which may be through brochures, advertisements, personal selling etc. E.g. If a resort hotel brochure shows a beautiful room but the guests arrive and find the room to be cheap and very ordinary. Many a times people make advance bookings based on the brochures or seeing the website or some other advertisements. In such bookings sometimes advance also has to be paid. If the customer does not like the room ambience he may be left with little choice since refunds are not given by many hotels.

A family had gone on vacation for a month but received electricity bill for the same month running in several thousands. Which service related consumer problems is depicted in this case?

1. Excessive billing
2. Being charged but not delivering the service
3. Making false claims
4. Overstating the service attributes

Options :

- 485584146337. 1
- 485584146338. 2
- 485584146339. 3
- 485584146340. 4

Question Number : 200 Question Id : 48558436585 Question Type : MCQ Option Shuffling : No Is Question Mandatory : No Calculator : None Response Time : N.A Think Time : N.A Minimum Instruction Time : 0

Correct Marks : 5 Wrong Marks : 1

Question Key Details :

Key	Value
Comprehension	Comp2

Read the passage carefully. Attempt Question

ഉപഭോക്താക്കൾ കേവലം സാധനങ്ങൾ മാത്രമേ വാങ്ങുന്നവരല്ല. ബാങ്കുകളും മറ്റ് ധനകാര്യ സ്ഥാപനങ്ങളും നൽകുന്ന സേവനങ്ങൾ, ദ്രാവൽ എഞ്ചിനീയറുകളും എയർലൈനുകളും നൽകുന്ന സേവനങ്ങൾ, ആശുപത്രികളും ആരോഗ്യപ്രവർത്തകരും നൽകുന്ന സേവനങ്ങൾ, മാമിസ്ട്രം ശൈലിക്കൽ നോഡുകളുടെയും പരീക്ഷകളുടെയും ശുചീകരണം, വൈദ്യുതി, വെള്ളം, ടെലിഫോൺ, പോസ്റ്റ് സേവനങ്ങൾ, ടെലിഗ്രാഫ്, വിദ്യാഭ്യാസ സ്ഥാപനങ്ങൾ എന്നിവ ഉപഭോക്താക്കൾ വാങ്ങുന്ന സേവനങ്ങളിൽ പെടുന്നു.

ഇത്തരം സേവനങ്ങളുമായി ബന്ധപ്പെട്ട് നിരവധി പ്രശ്നങ്ങളാണ് ഉപഭോക്താക്കൾ അഭിമുഖീകരിക്കുന്നത്. അതിൽ തുക ഈടാക്കൽ, പണം ഈടാക്കിയട്ടും സേവനം നൽകാതിരിക്കൽ, വാഗ്ദാനം ചെയ്ത സേവനവും നൽകുന്ന സേവനവും തമ്മിലുള്ള അന്തരം, സേവന ഗുണങ്ങൾ പെരുപ്പിച്ച് കാണിച്ചു ഉപഭോക്താവിനെ ആകർഷിക്കൽ, തെറ്റായ അവകാശവാദം ഉന്നയിക്കൽ എന്നിവ അവയിൽ ചിലതാണ്.

വാഗ്ദാനം ചെയ്തപ്പോൾ സേവനവും നൽകപ്പെട്ട സേവനവും തമ്മിലുള്ള അന്തരം ഒരു ഉപഭോക്തൃ പ്രശ്നമാണ്. സേവന ഓൺലൈൻ രേഖാക്കുറിപ്പുകളിലൂടെയോ പരസ്യങ്ങളിലൂടെയോ വ്യക്തിഗത വിൽപനയിലൂടെയോ നൽകുന്ന വാഗ്ദാനങ്ങൾ ഉപഭോക്താവിന്റെ പ്രതീക്ഷകളെ സാധിപ്പിക്കുന്നു. ഒരു നിരസാർത്ഥി ഹോട്ടലിന്റെ രേഖാക്കുറി തന്നോടൊപ്പമേ ഒരു മുനിയുടെ ചിത്രം കാണിക്കുന്നു. ഇത് കണ്ട് ഹോട്ടലിൽ എത്തുന്ന അതിഥിക്ക് വെറുപ്പാണ്. ഗുണനിലവാരം കുറഞ്ഞ സാധാരണ മുനി ആയിരിക്കും. മിക്കവാറും ആളുകൾ പരസ്യം കണ്ടും വെബ്സൈറ്റ് സന്ദർശിച്ചും രേഖാക്കുറി നോക്കിയുമാണ് മുനി ബുക്ക് ചെയ്യുന്നത്. ഇത്തരം കേസുകളിൽ മിക്കവാറും മുൻകൂറായി പണം അടച്ചിട്ടും ഉണ്ടാകും. മിക്കവാറും ഹോട്ടലുകൾ മുൻകൂറായി നൽകിയ പണം തിരിച്ചു നൽകാത്ത സാഹചര്യത്തിൽ, ഉപഭോക്താവിന് മുനി ഇഷ്യൂപ്പട്ടിട്രെക്ടിലും മറ്റ് മാർഗങ്ങൾ ഉണ്ടാവില്ല.

ഒരു മാസത്തേക്ക് അവധിക്കു പോയ ഒരു കുടുംബത്തിന് അതേ മാസം ആയിരക്കണക്കിന് രൂപയുടെ വൈദ്യുതി ബിൽ ആണ് ലഭിച്ചത്. ഉപഭോക്തൃ പ്രശ്നവുമായി ബന്ധപ്പെട്ട ഏത് പ്രശ്നമാണ് ഈ ഉദാഹരണത്തിൽ കാണിച്ചിരിക്കുന്നത്?

1. അമിതമായ തുക ഈടാക്കൽ
2. തുക ഈടാക്കിയട്ടും സേവനം നൽകാതിരിക്കൽ
3. തെറ്റായ അവകാശ വാദം ഉന്നയിക്കുക
4. സേവന ഗുണങ്ങൾ പെരുപ്പിച്ച് കാണിക്കുക

Options :

- 485584146337. 1
- 485584146338. 2
- 485584146339. 3
- 485584146340. 4

Teaching Aptitude

Group Number :	6
Group Id :	485584826
Group Maximum Duration :	45
Group Minimum Duration :	45
Show Attended Group? :	No
Edit Attended Group? :	No
Break time :	0
Group Marks :	200
Is this Group for Examiner? :	No
Examiner permission :	Cant View
Show Progress Bar? :	No

Teaching Aptitude

Section Id :	485584950
Section Number :	1
Section type :	Online
Mandatory or Optional :	Mandatory
Number of Questions :	50
Number of Questions to be attempted :	40
Section Marks :	200
Enable Mark as Answered Mark for Review and Clear Response :	Yes
Maximum Instruction Time :	0
Sub-Section Number :	1
Sub-Section Id :	4855842702
Question Shuffling Allowed :	Yes
Is Section Default? :	null

Question Number : 201 Question Id : 48558436586 Question Type : MCQ Option Shuffling : No Is Question Mandatory : No Calculator : None
Response Time : N.A Think Time : N.A Minimum Instruction Time : 0
Correct Marks : 5 Wrong Marks : 1

Question Key Details :

Key	Value
Comprehension	MCQ

Match List I with List II

LIST I Dance		LIST II Artists	
A.	Bharatnatyam	I.	Savita Mehta
B.	Odissi	II.	Sitara Devi
C.	Kathak	III.	Yamini Krishnamurthy
D.	Manipuri	IV.	Sanjukta Panigrahi

Choose the correct answer from the options given below:

1. A-III, B-IV, C-II, D-I
2. A-III, B-II, C-IV, D-I
3. A-II, B-IV, C-III, D-I
4. A-II, B-I, C-IV, D-III

Options :

485584146341. 1
485584146342. 2
485584146343. 3
485584146344. 4

Question Number : 201 Question Id : 48558436586 Question Type : MCQ Option Shuffling : No Is Question Mandatory : No Calculator : None
Response Time : N.A Think Time : N.A Minimum Instruction Time : 0
Correct Marks : 5 Wrong Marks : 1

Question Key Details :

Key	Value
Comprehension	MCQ

പട്ടിക I നെ പട്ടിക II രണ്ടുമായി ചേരും പടി ചേർക്കുക

പട്ടിക I സൂത്രം	പട്ടിക II കലാകാരന്മാർ
A. ഭരതനാട്യം	I. സവിത മേരാ
B. ഓഡീസി	II. സീതാരാ ദേവി
C. കഥക്	III. യാമിനി കുഷ്ലുമുർത്തി
D. മണിപ്പുരി	IV. സജയുക്ത പാണിഗ്രഹി

താഴെ തന്നിരിക്കുന്നവയിൽ നിന്ന് ശരിയായ ഉത്തരം തിരഞ്ഞെടുക്കുക

1. A-III, B-IV, C-II, D-I
2. A-III, B-II, C-IV, D-I
3. A-II, B-IV, C-III, D-I
4. A-II, B-I, C-IV, D-III

Options :

- 485584146341. 1
- 485584146342. 2
- 485584146343. 3
- 485584146344. 4

Question Number : 202 Question Id : 48558436587 Question Type : MCQ Option Shuffling : No Is Question Mandatory : No Calculator : None Response Time : N.A Think Time : N.A Minimum Instruction Time : 0

Correct Marks : 5 Wrong Marks : 1

Question Key Details :

Key	Value
Comprehension	MCQ

DD Gyan Darshan is an educational media initiative of Ministry of Education in collaboration with-

- A. Ministry of Information and Broadcasting
- B. Prasar Bharti
- C. ISRO
- D. IGNOU
- E. Ministry of Information and Communication Technology

Choose the correct answer from the options given below:

1. A, B and C only
2. A, C and D only
3. A, B, C and D only
4. B, C and E only

Options :

- 485584146345. 1
- 485584146346. 2
- 485584146347. 3
- 485584146348. 4

Question Number : 202 Question Id : 48558436587 Question Type : MCQ Option Shuffling : No Is Question Mandatory : No Calculator : None Response Time : N.A Think Time : N.A Minimum Instruction Time : 0

Correct Marks : 5 Wrong Marks : 1

Question Key Details :

Key	Value
-----	-------

വിദ്യാഭ്യാസ മന്ത്രാലയം ആരുമായി സംയോജിപ്പിച്ചുകൊണ്ടാണ് D D ഗ്യാൻ ദർശൻ എന്ന വിദ്യാഭ്യാസ മീഡിയ ആരംഭിക്കുന്നത്.

- A. വിവര വിനിമയ മന്ത്രാലയം
- B. പ്രസാർ ഭാരതി
- C. ISRO
- D. IGNOU
- E. വിവരവിനിമയ സങ്കേതിക വിദ്യ മന്ത്രാലയം

താഴെ തന്നിരിക്കുന്നവയിൽ നിന്ന് ശരിയായ ഉത്തരം തിരഞ്ഞെടുക്കുക

- 1. A, B, C മാത്രം
- 2. A, C, D മാത്രം
- 3. A, B, C, D മാത്രം
- 4. B, C, E മാത്രം

Options :

- 485584146345. 1
- 485584146346. 2
- 485584146347. 3
- 485584146348. 4

Question Number : 203 Question Id : 48558436588 Question Type : MCQ Option Shuffling : No Is Question Mandatory : No Calculator : None Response Time : N.A Think Time : N.A Minimum Instruction Time : 0

Correct Marks : 5 Wrong Marks : 1

Question Key Details :

Key	Value
Comprehension	MCQ

Match List I with List II

LIST I	LIST II
A. Thappad	I. Women's bodies and commercial gains
B. Mimi	II. Quality education for all
C. Black	III. Domestic violence and dignity
D. Hachai	IV. Right to a dignified life and knowledge

Choose the correct answer from the options given below:

- 1. A-III, B-I, C-IV, D-II
- 2. A-I, B-III, C-IV, D-II
- 3. A-III, B-I, C-II, D-IV
- 4. A-III, B-II, C-IV, D-I

Options :

- 485584146349. 1
- 485584146350. 2
- 485584146351. 3
- 485584146352. 4

Question Number : 203 Question Id : 48558436588 Question Type : MCQ Option Shuffling : No Is Question Mandatory : No Calculator : None Response Time : N.A Think Time : N.A Minimum Instruction Time : 0

Correct Marks : 5 Wrong Marks : 1

Question Key Details :

Key	Value
Comprehension	MCQ

പട്ടിക I നെ പട്ടിക II രണ്ടുമായി ചേരും പടി ചേർക്കുക

പട്ടിക I	പട്ടിക II
A. തപ്പാട്	I. സ്മൃതികളുടെ ശരിരങ്ങളും വാണിജ്യ നേട്ടങ്ങളും
B. മിമി	II. ഗുണമേന്മയുള്ള വിദ്യാഭ്യാസം എല്ലാവർക്കും
C. ബാക്കി	III. ആഭ്യന്തര കലാപരവും അന്തസ്സും
D. ഹനികൃ	IV. അന്തസ്സുള്ള ജീവിതത്തിനും അറിവിനും ഉള്ള അവകാശം

താഴെ തന്നിരിക്കുന്നവയിൽ നിന്ന് ശരിയായ ഉത്തരം തിരഞ്ഞെടുക്കുക

1. A-III, B-I, C-IV, D-II
2. A-I, B-III, C-IV, D-II
3. A-III, B-I, C-II, D-IV
4. A-III, B-II, C-IV, D-I

Options :

485584146349. 1
485584146350. 2
485584146351. 3
485584146352. 4

Question Number : 204 Question Id : 48558436589 Question Type : MCQ Option Shuffling : No Is Question Mandatory : No Calculator : None Response Time : N.A Think Time : N.A Minimum Instruction Time : 0

Correct Marks : 5 Wrong Marks : 1

Question Key Details :

Key	Value
Comprehension	MCQ

In the story 'Idgah' the protagonist Hamid buys a _____ for _____ from the fair.

1. pair of tongs, his grandmother
2. pair of tongs, his mother
3. clay doll, himself
4. clay doll, his grandmother

Options :

485584146353. 1
485584146354. 2
485584146355. 3
485584146356. 4

Question Number : 204 Question Id : 48558436589 Question Type : MCQ Option Shuffling : No Is Question Mandatory : No Calculator : None Response Time : N.A Think Time : N.A Minimum Instruction Time : 0

Correct Marks : 5 Wrong Marks : 1

Question Key Details :

Key	Value
Comprehension	MCQ

ഈർഗാഹ് എന്ന കഥയിലെ നായകൻ ഹാമിദ് മീലയിൽ നിന്നും _____ വാങ്ങിച്ചു _____ ന് വേണ്ടി.

1. ഒരു ജോഡി ചവണുകൾ, അവന്റെ മുത്തശ്ശി
2. ഒരു ജോഡി ചവണുകൾ, അവന്റെ അമ്മ
3. കുളിമണ്ണ് കൊണ്ട് ഉണ്ടാക്കിയ പാവ, അവനു തന്നെ
4. കുളിമണ്ണ് കൊണ്ട് ഉണ്ടാക്കിയ പാവ, അവന്റെ മുത്തശ്ശി

Options :

- 485584146353. 1
- 485584146354. 2
- 485584146355. 3
- 485584146356. 4

Question Number : 205 Question Id : 48558436590 Question Type : MCQ Option Shuffling : No Is Question Mandatory : No Calculator : None Response Time : N.A Think Time : N.A Minimum Instruction Time : 0

Correct Marks : 5 Wrong Marks : 1

Question Key Details :

Key	Value
Comprehension	MCQ

Who is the first female Indian scientist to receive a PhD degree in a scientific discipline?

1. Kamala Sohanie
2. Janaki Ammal
3. Anandibai Gopalrao Joshi
4. Asima Chaterjee

Options :

- 485584146357. 1
- 485584146358. 2
- 485584146359. 3
- 485584146360. 4

Question Number : 205 Question Id : 48558436590 Question Type : MCQ Option Shuffling : No Is Question Mandatory : No Calculator : None Response Time : N.A Think Time : N.A Minimum Instruction Time : 0

Correct Marks : 5 Wrong Marks : 1

Question Key Details :

Key	Value
Comprehension	MCQ

ശാസ്ത്ര മേഖലയിൽ PhD നേടിയ ആദ്യത്തെ ഇന്ത്യൻ വനിതാ ശാസ്ത്രജ്ഞ ആര്?

1. കമല സോഹാനി
2. ജാനകി അമ്മാൾ
3. ആനന്ദി ഭായ് ഗോപാലറാവു ജോഷി
4. അസിമ ചാറ്റർജി

Options :

- 485584146357. 1
- 485584146358. 2
- 485584146359. 3
- 485584146360. 4

Question Number : 206 Question Id : 48558436591 Question Type : MCQ Option Shuffling : No Is Question Mandatory : No Calculator : None Response Time : N.A Think Time : N.A Minimum Instruction Time : 0

Correct Marks : 5 Wrong Marks : 1

Question Key Details :

Key	Value
Comprehension	MCQ

In the film, 'Chak De Indis', which of the following themes was not addressed?

1. National integration
2. Child labour
3. Women Empowerment
4. Religious Harmony

Options :

- 485584146361. 1
- 485584146362. 2
- 485584146363. 3
- 485584146364. 4

Question Number : 206 Question Id : 48558436591 Question Type : MCQ Option Shuffling : No Is Question Mandatory : No Calculator : None Response Time : N.A Think Time : N.A Minimum Instruction Time : 0

Correct Marks : 5 Wrong Marks : 1

Question Key Details :

Key	Value
Comprehension	MCQ

'ചാക് ടെ ഇന്ത്യ' എന്ന ചിത്രത്തിൽ താഴെ തന്നിട്ടുള്ള ഏത് വിഷയമാണ് കൈകാര്യം ചെയ്യാത്തത്?

1. രാഷ്ട്രീയോദ് ഗ്രഹണം
2. ബാല രവല
3. സ്ത്രീ ശാക്തീകരണം
4. മത സൗഹാർദ്ദം

Options :

- 485584146361. 1
- 485584146362. 2
- 485584146363. 3
- 485584146364. 4

Question Number : 207 Question Id : 48558436592 Question Type : MCQ Option Shuffling : No Is Question Mandatory : No Calculator : None Response Time : N.A Think Time : N.A Minimum Instruction Time : 0

Correct Marks : 5 Wrong Marks : 1

Question Key Details :

Key	Value
Comprehension	MCQ

The stories by Premchand primarily deal with:

- A. Challenges faced by children
- B. issues related to women
- C. struggles of the professional class
- D. struggles of the rural poor
- E. the character of villages in medieval India

Choose the most appropriate answer from the options given below:

- 1. B, C and E only
- 2. D, A and E only
- 3. C, D and A only
- 4. A, B and D only

Options :

- 485584146365. 1
- 485584146366. 2
- 485584146367. 3
- 485584146368. 4

Question Number : 207 Question Id : 48558436592 Question Type : MCQ Option Shuffling : No Is Question Mandatory : No Calculator : None Response Time : N.A Think Time : N.A Minimum Instruction Time : 0

Correct Marks : 5 Wrong Marks : 1

Question Key Details :

Key	Value
Comprehension	MCQ

പ്രേമചന്ദ്രിന്റെ കഥകൾ പ്രധാനമായും കൈകാര്യം ചെയ്യുന്നത്

- A. കുട്ടികൾ നേരിടുന്ന വെല്ലുവിളികൾ
- B. സ്ത്രീകളുമായി ബന്ധപ്പെട്ട പ്രശ്നങ്ങൾ
- C. പ്രൊഫഷണൽ ക്ലാസ്സിന്റെ പോരാട്ടം
- D. ഗ്രാമീണരായ പാവപ്പെട്ടവരുടെ പോരാട്ടം
- E. മധ്യ കാലഘട്ട ഇന്ത്യയിലെ ഗ്രാമങ്ങളുടെ സ്വഭാവം

താഴെ തന്നിരിക്കുന്നവയിൽ നിന്ന് ശരിയായ ഉത്തരം തിരഞ്ഞെടുക്കുക

- 1. B, C, E മാത്രം
- 2. D, A, E മാത്രം
- 3. C, D, A മാത്രം
- 4. A, B, D മാത്രം

Options :

- 485584146365. 1
- 485584146366. 2
- 485584146367. 3
- 485584146368. 4

Question Number : 208 Question Id : 48558436593 Question Type : MCQ Option Shuffling : No Is Question Mandatory : No Calculator : None Response Time : N.A Think Time : N.A Minimum Instruction Time : 0

Correct Marks : 5 Wrong Marks : 1

Question Key Details :

Key	Value
Comprehension	MCQ

The central theme of the Hindi film, 'Dangal' is:

1. Urban-rural social divide in the state of Haryana
2. Women in a male- dominated sport
3. Relationship between siblings
4. Mother - daughter relationship

Options :

- 485584146369. 1
- 485584146370. 2
- 485584146371. 3
- 485584146372. 4

Question Number : 208 Question Id : 48558436593 Question Type : MCQ Option Shuffling : No Is Question Mandatory : No Calculator : None Response Time : N.A Think Time : N.A Minimum Instruction Time : 0

Correct Marks : 5 Wrong Marks : 1

Question Key Details :

Key	Value
Comprehension	MCQ

'ദംകർ' എന്ന ഹിന്ദി ഫിലിമിന്റെ പ്രധാന ആശയമാണ്

1. ഹരിയാന സംസ്ഥാനത്തിലെ നഗര ഗ്രാമീണ സാമൂഹിക വിഭജനം
2. പുരുഷ മേധാവിത്വമുള്ള കായിക ഇനത്തിൽ സ്ത്രീകൾ
3. സഹോദരങ്ങൾ കിടയില്ലുള്ള ബന്ധം
4. അമ്മ-മക്കൾ ബന്ധം

Options :

- 485584146369. 1
- 485584146370. 2
- 485584146371. 3
- 485584146372. 4

Question Number : 209 Question Id : 48558436594 Question Type : MCQ Option Shuffling : No Is Question Mandatory : No Calculator : None Response Time : N.A Think Time : N.A Minimum Instruction Time : 0

Correct Marks : 5 Wrong Marks : 1

Question Key Details :

Key	Value
Comprehension	MCQ

Tagore's alternate school 'Shantiniketan' did NOT promote:

1. Open classrooms
2. Simplicity of the learning process
3. Teaching in the mother tongue
4. Discipline in children

Options :

- 485584146373. 1
- 485584146374. 2
- 485584146375. 3
- 485584146376. 4

Question Number : 209 Question Id : 48558436594 Question Type : MCQ Option Shuffling : No Is Question Mandatory : No Calculator : None Response Time : N.A Think Time : N.A Minimum Instruction Time : 0

Correct Marks : 5 Wrong Marks : 1

Question Key Details :

Key	Value
Comprehension	MCQ

ടാഗോറിന്റെ ബദൽ സ്തൂലായ ശാന്തി നിക്ഷേപൻ പ്രോത്സാഹിപ്പിക്കുന്നില്ല

1. തുറന്ന ക്ലാസ് വുമുകൾ
2. ലഘുവായ പഠന പ്രവർത്തനം
3. മാതൃഭാഷയിൽ പഠിപ്പിക്കുന്നു
4. വിദ്യാർത്ഥികളിലെ അച്ചടക്കം

Options :

- 485584146373. 1
- 485584146374. 2
- 485584146375. 3
- 485584146376. 4

Question Number : 210 Question Id : 48558436595 Question Type : MCQ Option Shuffling : No Is Question Mandatory : No Calculator : None Response Time : N.A Think Time : N.A Minimum Instruction Time : 0

Correct Marks : 5 Wrong Marks : 1

Question Key Details :

Key	Value
Comprehension	MCQ

Which of the following is not a Children's novel?

1. Ahimsa
2. Charlie and the Chocolate Factory
3. A Thousand Splendid Suns
4. Wonder

Options :

- 485584146377. 1
- 485584146378. 2
- 485584146379. 3
- 485584146380. 4

Question Number : 210 Question Id : 48558436595 Question Type : MCQ Option Shuffling : No Is Question Mandatory : No Calculator : None Response Time : N.A Think Time : N.A Minimum Instruction Time : 0

Correct Marks : 5 Wrong Marks : 1

Question Key Details :

Key	Value
Comprehension	MCQ

താഴെ തന്നിട്ടുള്ളവയിൽ കൂട്ടികളുടെ നോവൽ അല്ലാത്തത് ഏത്?

1. അഹിംസ
2. ചാർലിയും ചോക്ലേറ്റ് ഫാക്ടറിയും
3. തൗസന്റ് സ്പെൻഡിഡ് സൺ
4. വണ്ടർ

Options :

485584146377. 1
485584146378. 2
485584146379. 3
485584146380. 4

Question Number : 211 Question Id : 48558436596 Question Type : MCQ Option Shuffling : No Is Question Mandatory : No Calculator : None Response Time : N.A Think Time : N.A Minimum Instruction Time : 0

Correct Marks : 5 Wrong Marks : 1

Question Key Details :

Key	Value
Comprehension	MCQ

Which among the following are 'Pros' of 5G Technology?

- A. Greater Transmission Speed
- B. Overcrowded Radio frequency
- C. Increased connectivity
- D. Wider Coverage
- E. High Energy consumption

Choose the correct answer from the options given below:

- 1. B, C and E only
- 2. A, C and D only
- 3. B, C and D only
- 4. A, C and E only

Options :

485584146381. 1
485584146382. 2
485584146383. 3
485584146384. 4

Question Number : 211 Question Id : 48558436596 Question Type : MCQ Option Shuffling : No Is Question Mandatory : No Calculator : None Response Time : N.A Think Time : N.A Minimum Instruction Time : 0

Correct Marks : 5 Wrong Marks : 1

Question Key Details :

Key	Value
Comprehension	MCQ

5G സാങ്കേതിക വിദ്യയുടെ 'പ്രോസ്' താഴെ തന്നിട്ടുള്ളവയിൽ ഏതാണ്?

- A. ഉയർന്ന ട്രാൻസ്മിഷൻ വേഗത
- B. തിങ്ങി നിറഞ്ഞ റേഡിയോ തരംഗം
- C. വർദ്ധിച്ച കണക്റ്റിവിറ്റി
- D. വിശാലമായ ഉൾക്കൊള്ളൽ
- E. ഉയർന്ന ഊർജ്ജ ഉപഭോഗം

താഴെ തന്നിരിക്കുന്നവയിൽ നിന്ന് ശരിയായ ഉത്തരം തിരഞ്ഞെടുക്കുക

- 1. B, C, E മാത്രം
- 2. A, C, D മാത്രം
- 3. B, C, D മാത്രം
- 4. A, C, E മാത്രം

Options :

485584146381. 1
485584146382. 2

485584146383. 3
485584146384. 4

Question Number : 212 Question Id : 48558436597 Question Type : MCQ Option Shuffling : No Is Question Mandatory : No Calculator : None
Response Time : N.A Think Time : N.A Minimum Instruction Time : 0

Correct Marks : 5 Wrong Marks : 1

Question Key Details :

Key	Value
Comprehension	MCQ

The Deep web on internet which is not accessible by the regular search engines like Google Bing is known as:

1. Black web
2. Brown web
3. Dirty web
4. Dark web

Options :

485584146385. 1
485584146386. 2
485584146387. 3
485584146388. 4

Question Number : 212 Question Id : 48558436597 Question Type : MCQ Option Shuffling : No Is Question Mandatory : No Calculator : None
Response Time : N.A Think Time : N.A Minimum Instruction Time : 0

Correct Marks : 5 Wrong Marks : 1

Question Key Details :

Key	Value
Comprehension	MCQ

സാധാരണ ഉപയോഗിക്കുന്ന സേർച്ച് എഞ്ചിനുകളായ ഗൂഗിൾ, ബിംഗ് എന്നിവയ്ക്ക് മനസ്സിലാക്കാൻ കഴിയാത്ത ഇന്റർനെറ്റിലെ ഡീപ്പ് വെബ് ഏത്?

1. ബ്ലാക്ക് വെബ്
2. ബ്രൗൺ വെബ്
3. ഡർട്ടി വെബ്
4. ഡാർക്ക് വെബ്

Options :

485584146385. 1
485584146386. 2
485584146387. 3
485584146388. 4

Question Number : 213 Question Id : 48558436598 Question Type : MCQ Option Shuffling : No Is Question Mandatory : No Calculator : None
Response Time : N.A Think Time : N.A Minimum Instruction Time : 0

Correct Marks : 5 Wrong Marks : 1

Question Key Details :

Key	Value
Comprehension	MCQ

In order to foster scientific temper through the means of exciting educational experiences, a teacher can take her students to a:

1. Museum
2. Music program
3. Planetarium
4. Art gallery

Options :

- 485584146389. 1
- 485584146390. 2
- 485584146391. 3
- 485584146392. 4

Question Number : 213 Question Id : 48558436598 Question Type : MCQ Option Shuffling : No Is Question Mandatory : No Calculator : None Response Time : N.A Think Time : N.A Minimum Instruction Time : 0

Correct Marks : 5 Wrong Marks : 1

Question Key Details :

Key	Value
Comprehension	MCQ

പ്രചോദനപരമായ വിദ്യാഭ്യാസ സംബന്ധിയായ അനുഭവങ്ങളിലൂടെ ശാസ്ത്രീയ മനോഭാവം വളർത്തിയെടുക്കുന്നതിനു വേണ്ടി, ഒരു കീച്ചർ അവളുടെ വിദ്യാർത്ഥികളെ കൊണ്ട് പോവുന്നു

1. മ്യൂസിയം
2. സംഗീത പരിപാടി
3. പ്ലാനറ്ററിയം
4. ആർട്ട് ഗാലറി

Options :

- 485584146389. 1
- 485584146390. 2
- 485584146391. 3
- 485584146392. 4

Question Number : 214 Question Id : 48558436599 Question Type : MCQ Option Shuffling : No Is Question Mandatory : No Calculator : None Response Time : N.A Think Time : N.A Minimum Instruction Time : 0

Correct Marks : 5 Wrong Marks : 1

Question Key Details :

Key	Value
Comprehension	MCQ

Jantar Mantar is an assembly of stone-built astronomical instruments, designed to be used with naked eyes. A visit to Jantar Mantar can help students to learn how _____.

1. astronomy was a leisure activity of people in the past.
2. astronomy was practised in buildings made with red stones.
3. people measured time when there were no standard instruments to measure the passing of time.
4. people measured time in those civilizations in which stones were used to build everything.

Options :

- 485584146393. 1
- 485584146394. 2

485584146395. 3
485584146396. 4

Question Number : 214 Question Id : 48558436599 Question Type : MCQ Option Shuffling : No Is Question Mandatory : No Calculator : None
Response Time : N.A Think Time : N.A Minimum Instruction Time : 0

Correct Marks : 5 Wrong Marks : 1

Question Key Details :

Key	Value
Comprehension	MCQ

കല്ലുകൾകൊണ്ട് കാണാൻ കഴിയുന്ന വിധത്തിൽ കല്ലുകൊണ്ട് നിർമ്മിച്ച ജ്യോതിശാസ്ത്ര ഉപകരണങ്ങളുടെ കൂട്ടമാണ് ജന്തരി മന്ദിരം. ജന്തരി മന്ദിരം സന്ദർശിക്കുക വഴി വിദ്യാർത്ഥികൾക്ക് മനസ്സിലാക്കാൻ കഴിയും എങ്ങനെ _____

1. പഴയ കാലത്ത് ജനങ്ങളുടെ ഒഴിവു സമയത്തെ പ്രവർത്തനമാണ് ജ്യോതിശാസ്ത്രം
2. ചുവന്ന കല്ലുകൾ കൊണ്ട് നിർമ്മിച്ച കെട്ടിടത്തിൽ ജ്യോതിശാസ്ത്രം പ്രാക്ടീസ് ചെയ്തു
3. സമയം പോകുന്നത് അളക്കാൻ സ്റ്റാൻഡേർഡ് ഉപകരണങ്ങൾ ഇല്ലാതിരുന്ന സമയത്ത്, ജനങ്ങൾ സമയം അറിയാൻ ഉപയോഗിച്ചു
4. കല്ലുകൾ കൊണ്ട് എന്തും നിർമ്മിക്കുന്ന സംസ്കാരം ഉള്ളവർ സമയം അളന്നു

Options :

485584146393. 1
485584146394. 2
485584146395. 3
485584146396. 4

Question Number : 215 Question Id : 48558436600 Question Type : MCQ Option Shuffling : No Is Question Mandatory : No Calculator : None
Response Time : N.A Think Time : N.A Minimum Instruction Time : 0

Correct Marks : 5 Wrong Marks : 1

Question Key Details :

Key	Value
Comprehension	MCQ

The first country to have entered the Mars orbit in its first attempt is:

1. USA
2. China
3. India
4. Russia

Options :

485584146397. 1
485584146398. 2
485584146399. 3
485584146400. 4

Question Number : 215 Question Id : 48558436600 Question Type : MCQ Option Shuffling : No Is Question Mandatory : No Calculator : None
Response Time : N.A Think Time : N.A Minimum Instruction Time : 0

Correct Marks : 5 Wrong Marks : 1

Question Key Details :

Key	Value
Comprehension	MCQ

ആദ്യത്തെ ശ്രമത്തിൽ തന്നെ ചൊവ്വയുടെ ഒർബിറ്റിലേക്ക് പ്രവേശിച്ചിട്ടുള്ള ആദ്യത്തെ രാജ്യം

- 1. USA
- 2. ചൈന
- 3. ഇന്ത്യ
- 4. റഷ്യ

Options :

- 485584146397. 1
- 485584146398. 2
- 485584146399. 3
- 485584146400. 4

Question Number : 216 Question Id : 48558436601 Question Type : MCQ Option Shuffling : No Is Question Mandatory : No Calculator : None Response Time : N.A Think Time : N.A Minimum Instruction Time : 0

Correct Marks : 5 Wrong Marks : 1

Question Key Details :

Key	Value
Comprehension	MCQ

The project of 'NASA' targeting the landing of first woman/women astronaut/s on moon is known as:

- 1. MOM
- 2. ARTEMIS
- 3. MISMOON
- 4. Moon opposition

Options :

- 485584146401. 1
- 485584146402. 2
- 485584146403. 3
- 485584146404. 4

Question Number : 216 Question Id : 48558436601 Question Type : MCQ Option Shuffling : No Is Question Mandatory : No Calculator : None Response Time : N.A Think Time : N.A Minimum Instruction Time : 0

Correct Marks : 5 Wrong Marks : 1

Question Key Details :

Key	Value
Comprehension	MCQ

ആദ്യത്തെ വനിതാ ബഹിരാകാശ സഞ്ചാരി ചന്ദ്രനിലേക്ക് ഇറങ്ങുന്നതിനെ ലക്ഷ്യം വെച്ചുകൊണ്ടുള്ള 'NASA' യുടെ പദ്ധതിയെ അറിയപ്പെടുന്നത്

- 1. MOM
- 2. ARTEMIS
- 3. MISMOON
- 4. മൂൺ ഒപ്പോസിഷൻ

Options :

- 485584146401. 1
- 485584146402. 2
- 485584146403. 3
- 485584146404. 4

Question Number : 217 Question Id : 48558436602 Question Type : MCQ Option Shuffling : No Is Question Mandatory : No Calculator : None Response Time : N.A Think Time : N.A Minimum Instruction Time : 0

Correct Marks : 5 Wrong Marks : 1

Question Key Details :

Key	Value
Comprehension	MCQ

Which of the following is NOT true: The turning points of the graph of a function :

1. Represent local maxima and local minima
2. Represent Absolute maxima and Absolute minima
3. Represent point of inflexion
4. Represent neither local maxima nor local minima

Options :

- 485584146405. 1
- 485584146406. 2
- 485584146407. 3
- 485584146408. 4

Question Number : 217 Question Id : 48558436602 Question Type : MCQ Option Shuffling : No Is Question Mandatory : No Calculator : None Response Time : N.A Think Time : N.A Minimum Instruction Time : 0

Correct Marks : 5 Wrong Marks : 1

Question Key Details :

Key	Value
Comprehension	MCQ

താഴെ തന്നിട്ടുള്ളവയിൽ ശരിയല്ലാത്തത്: ഒരു ഫങ്ഷന്റെ ഗ്രാഫിന്റെ ടേണിംഗ് പോയിന്റുകൾ

1. ലോക്കൽ മാക്സിമത്തെയും ലോക്കൽ മിനിമത്തെയും പ്രതിനിധീകരിക്കുന്നു
2. കേവല മാക്സിമത്തെയും കേവല മിനിമത്തെയും പ്രതിനിധീകരിക്കുന്നു
3. വക്രതയുടെ പോയിന്റ് പ്രതിനിധീകരിക്കുന്നു
4. ലോക്കൽ മാക്സിമത്തെയും ലോക്കൽ മിനിമത്തെയും പ്രതിനിധീകരിക്കുന്നില്ല

Options :

- 485584146405. 1
- 485584146406. 2
- 485584146407. 3
- 485584146408. 4

Question Number : 218 Question Id : 48558436603 Question Type : MCQ Option Shuffling : No Is Question Mandatory : No Calculator : None Response Time : N.A Think Time : N.A Minimum Instruction Time : 0

Correct Marks : 5 Wrong Marks : 1

Question Key Details :

Key	Value
Comprehension	MCQ

Any teaching activity which puts before the students the real problems, that they have to solve for themselves, problems for which there are no easy solutions in any book _____,

1. brings them close to guide books
2. makes them skilled
3. crafts their activity
4. sharpens their intelligence

Options :

- 485584146409. 1
- 485584146410. 2
- 485584146411. 3
- 485584146412. 4

Question Number : 218 Question Id : 48558436603 Question Type : MCQ Option Shuffling : No Is Question Mandatory : No Calculator : None Response Time : N.A Think Time : N.A Minimum Instruction Time : 0

Correct Marks : 5 Wrong Marks : 1

Question Key Details :

Key	Value
Comprehension	MCQ

ഏതൊരു പഠന പ്രവർത്തനവും, കുട്ടികൾ തന്നെ പരിഹാരം കണ്ടെത്തേണ്ട ശരിയായ പ്രശ്നങ്ങൾ കുട്ടികളുടെ മുന്നിലേക്ക് വയ്ക്കുന്നു. ഒരു പുസ്തകത്തിലും ഖജനുമുഖലിയിലുമുള്ള പരിഹാരമില്ലാത്ത ഇത്തരം പ്രശ്നങ്ങൾ കുട്ടികളെ _____

1. വഴികാട്ടി ബുക്കുകളിലേക്ക് അവരെ അടുപ്പിക്കുന്നു
2. അവരെ വിദഗ്ദ്ധരാക്കുന്നു
3. അവരുടെ പ്രവർത്തനങ്ങളെ രൂപപ്പെടുത്തുന്നു
4. അവരുടെ ബുദ്ധിമുട്ടുകൾ മൂർച്ഛിച്ച് കൂട്ടുന്നു

Options :

- 485584146409. 1
- 485584146410. 2
- 485584146411. 3
- 485584146412. 4

Question Number : 219 Question Id : 48558436604 Question Type : MCQ Option Shuffling : No Is Question Mandatory : No Calculator : None Response Time : N.A Think Time : N.A Minimum Instruction Time : 0

Correct Marks : 5 Wrong Marks : 1

Question Key Details :

Key	Value
Comprehension	MCQ

A mathematics teacher told the students that her laptop and phone can run out of charge independently of each other. The probability that her phone is out of charge is 0.2 and the probability that they are both out of charge is 0.06. Find the probability that her laptop is out of charge.

1. 0.86
2. 0.4
3. 0.3
4. 0.14

Options :

- 485584146413. 1

485584146414. 2
485584146415. 3
485584146416. 4

Question Number : 219 Question Id : 48558436604 Question Type : MCQ Option Shuffling : No Is Question Mandatory : No Calculator : None Response Time : N.A Think Time : N.A Minimum Instruction Time : 0

Correct Marks : 5 Wrong Marks : 1

Question Key Details :

Key	Value
Comprehension	MCQ

ഒരു ഗണിത അധ്യാപിക വിദ്യാർത്ഥികളോട്, അവരുടെ ലാപ്സോപ്പിന്റെയും ഫോണിന്റെയും ചാർജ്ജ് സ്വതന്ത്രമായി തീർത്തു എന്ന് പറഞ്ഞു. ഫോണിന്റെ ചാർജ്ജ് തീർത്തതിന്റെ പോർട്ടബിളിറ്റി 0.2, അതേ സമയം രണ്ടിന്റെയും ചാർജ്ജ് തീർത്തതിന്റെ പോർട്ടബിളിറ്റി 0.06 ഉം ആണ്. എങ്കിൽ അവരുടെ ലാപ്സോപ്പിന്റെ ചാർജ്ജ് തീർന്നതിന്റെ പോർട്ടബിളിറ്റി കണ്ടെത്തുക

- 1. 0.86
- 2. 0.4
- 3. 0.3
- 4. 0.14

Options :

485584146413. 1
485584146414. 2
485584146415. 3
485584146416. 4

Question Number : 220 Question Id : 48558436605 Question Type : MCQ Option Shuffling : No Is Question Mandatory : No Calculator : None Response Time : N.A Think Time : N.A Minimum Instruction Time : 0

Correct Marks : 5 Wrong Marks : 1

Question Key Details :

Key	Value
Comprehension	MCQ

By explaining the theory of probability a teacher told that "For a particular E_i we can use a special formula."

Which theorem is he/she teaching?

- 1. Conditional Probability Theorem
- 2. Multiplication Theorem
- 3. Baye's Theorem
- 4. Total Probability Theorem

Options :

485584146417. 1
485584146418. 2
485584146419. 3
485584146420. 4

Question Number : 220 Question Id : 48558436605 Question Type : MCQ Option Shuffling : No Is Question Mandatory : No Calculator : None Response Time : N.A Think Time : N.A Minimum Instruction Time : 0

Correct Marks : 5 Wrong Marks : 1

Question Key Details :

Key	Value
Comprehension	MCQ

പോർട്ടബിളിറ്റി സിദ്ധാന്തം വിശദീകരിച്ചു കൊണ്ട് ഒരു ടീച്ചർ പറഞ്ഞു "ഒരു പ്രത്യേക E, ന് നമുക്ക് ഒരു പ്രത്യേക സ്വത്വ വാക്യം ഉപയോഗിക്കാം".

ഏത് സിദ്ധാന്തമാണ് അവൾ പഠിപ്പിക്കുന്നത് ?

1. സോപാദിക പോർട്ടബിളിറ്റി സിദ്ധാന്തം
2. ഗുണന സിദ്ധാന്തം
3. ബയേസ് സിദ്ധാന്തം
4. മൊത്തം പോർട്ടബിളിറ്റി സിദ്ധാന്തം

Options :

- 485584146417. 1
- 485584146418. 2
- 485584146419. 3
- 485584146420. 4

Question Number : 221 Question Id : 48558436606 Question Type : MCQ Option Shuffling : No Is Question Mandatory : No Calculator : None Response Time : N.A Think Time : N.A Minimum Instruction Time : 0

Correct Marks : 5 Wrong Marks : 1

Question Key Details :

Key	Value
Comprehension	MCQ

If a child draws a tree by observing the trees in her surroundings and her teacher introduced scale drawings to her, the experience can help her to develop a _____.

1. sense of aesthetics
2. sense of proportion
3. sense of perspective
4. sense of transference

Options :

- 485584146421. 1
- 485584146422. 2
- 485584146423. 3
- 485584146424. 4

Question Number : 221 Question Id : 48558436606 Question Type : MCQ Option Shuffling : No Is Question Mandatory : No Calculator : None Response Time : N.A Think Time : N.A Minimum Instruction Time : 0

Correct Marks : 5 Wrong Marks : 1

Question Key Details :

Key	Value
Comprehension	MCQ

ചുറ്റുപാടുമുള്ള മരങ്ങളെ നിരീക്ഷിച്ചു മരത്തെ വരക്കുന്ന ഒരു കുട്ടിക്ക്, അവളുടെ ടീച്ചർ സ്കെയിൽ ഡ്രോയിംഗ് പരിചയപ്പെടുത്തുന്നുണ്ടെങ്കിൽ, ഈ അനുഭവം ആ കുട്ടിയിൽ വികസിപ്പിക്കുന്നത് _____

1. സൗന്ദര്യ ബോധം
2. അനുപാത ബോധം
3. വീക്ഷണ ബോധം
4. കൈമാറ്റത്തിന്റെ ബോധം

Options :

- 485584146421. 1
- 485584146422. 2
- 485584146423. 3
- 485584146424. 4

Question Number : 222 Question Id : 48558436607 Question Type : MCQ Option Shuffling : No Is Question Mandatory : No Calculator : None Response Time : N.A Think Time : N.A Minimum Instruction Time : 0

Correct Marks : 5 Wrong Marks : 1

Question Key Details :

Key	Value
Comprehension	MCQ

A lot of school children find mathematics very difficult and social sciences easy. One of the reasons for their perceptive is that

- 1. mathematics demands expression
- 2. mathematics is not common knowledge
- 3. mathematics demands precision
- 4. mathematics involves concrete images

Options :

- 485584146425. 1
- 485584146426. 2
- 485584146427. 3
- 485584146428. 4

Question Number : 222 Question Id : 48558436607 Question Type : MCQ Option Shuffling : No Is Question Mandatory : No Calculator : None Response Time : N.A Think Time : N.A Minimum Instruction Time : 0

Correct Marks : 5 Wrong Marks : 1

Question Key Details :

Key	Value
Comprehension	MCQ

ഒരുപാട് സ്കൂൾ കുട്ടികൾക്ക് ഗണിതം പ്രയാസവും സാമൂഹിക ശാസ്ത്രം ലളിതവുമാണ്. ഈ ഒരു വീക്ഷണത്തിന്റെ കാരണങ്ങളിൽ ഒന്നാണ്

- 1. ഗണിതം ആവിഷ്കാരം ആവശ്യപ്പെടുന്നു
- 2. ഗണിതം പൊതുവായ അറിവല്ല
- 3. ഗണിതം കൃത്യത ആവശ്യപ്പെടുന്നു
- 4. ഗണിതത്തിൽ മുൻതരമായ ചിത്രങ്ങൾ ഉൾപ്പെടുന്നു

Options :

- 485584146425. 1
- 485584146426. 2
- 485584146427. 3
- 485584146428. 4

Question Number : 223 Question Id : 48558436608 Question Type : MCQ Option Shuffling : No Is Question Mandatory : No Calculator : None Response Time : N.A Think Time : N.A Minimum Instruction Time : 0

Correct Marks : 5 Wrong Marks : 1

Question Key Details :

Key	Value
Comprehension	MCQ

National Gallery of Modern Art (NGMA) is situated in

1. London
2. California
3. Kolkata
4. New Delhi

Options :

485584146429. 1
485584146430. 2
485584146431. 3
485584146432. 4

Question Number : 223 Question Id : 48558436608 Question Type : MCQ Option Shuffling : No Is Question Mandatory : No Calculator : None Response Time : N.A Think Time : N.A Minimum Instruction Time : 0

Correct Marks : 5 Wrong Marks : 1

Question Key Details :

Key	Value
Comprehension	MCQ

ആധുനിക കലയുടെ ദേശീയ ഗ്യാലറി സ്ഥിതി ചെയ്യുന്നത്

1. ലണ്ടൻ
2. കാലിഫോർണിയ
3. കൽക്കത്ത
4. ന്യൂ ഡൽഹി

Options :

485584146429. 1
485584146430. 2
485584146431. 3
485584146432. 4

Question Number : 224 Question Id : 48558436609 Question Type : MCQ Option Shuffling : No Is Question Mandatory : No Calculator : None Response Time : N.A Think Time : N.A Minimum Instruction Time : 0

Correct Marks : 5 Wrong Marks : 1

Question Key Details :

Key	Value
Comprehension	MCQ

Which School of Art was also known as Graeco Buddhist School of Art?

1. Amravati School of Art
2. Mathura School of Art
3. Gandhara School of Art
4. Bengal School of Art

Options :

485584146433. 1
485584146434. 2
485584146435. 3
485584146436. 4

Question Number : 224 Question Id : 48558436609 Question Type : MCQ Option Shuffling : No Is Question Mandatory : No Calculator : None Response Time : N.A Think Time : N.A Minimum Instruction Time : 0

Correct Marks : 5 Wrong Marks : 1

Question Key Details :

Key	Value
Comprehension	MCQ

ഏത് കലയുടെ സ്തൂലാണ്, ഗ്രഹഭരണ ബുദ്ധിസ്തൂലം സ്തൂലം ഓഫ് ആർട്ട് എന്ന് അറിയപ്പെടുന്നത്?

1. അമരാവതി സ്തൂലം ഓഫ് ആർട്ട്
2. മഥുര സ്തൂലം ഓഫ് ആർട്ട്
3. ഗാന്ധാര സ്തൂലം ഓഫ് ആർട്ട്
4. ബംഗാൾ സ്തൂലം ഓഫ് ആർട്ട്

Options :

- 485584146433. 1
- 485584146434. 2
- 485584146435. 3
- 485584146436. 4

Question Number : 225 Question Id : 48558436610 Question Type : MCQ Option Shuffling : No Is Question Mandatory : No Calculator : None Response Time : N.A Think Time : N.A Minimum Instruction Time : 0

Correct Marks : 5 Wrong Marks : 1

Question Key Details :

Key	Value
Comprehension	MCQ

What was the profession of Partha Mitter?

1. Painter
2. Sculptor
3. Art Historian
4. Architect

Options :

- 485584146437. 1
- 485584146438. 2
- 485584146439. 3
- 485584146440. 4

Question Number : 225 Question Id : 48558436610 Question Type : MCQ Option Shuffling : No Is Question Mandatory : No Calculator : None Response Time : N.A Think Time : N.A Minimum Instruction Time : 0

Correct Marks : 5 Wrong Marks : 1

Question Key Details :

Key	Value
Comprehension	MCQ

പാഠ്യമിനിയുടെ ജോലി എന്തായിരുന്നു?

1. ചിത്രക്കാരൻ
2. ശില്പി
3. കലാ ചരിത്രകാരൻ
4. ആരക്കിട്ടെഴുത്തുകാരൻ

Options :

- 485584146437. 1
- 485584146438. 2
- 485584146439. 3
- 485584146440. 4

Question Number : 226 Question Id : 48558436611 Question Type : MCQ Option Shuffling : No Is Question Mandatory : No Calculator : None Response Time : N.A Think Time : N.A Minimum Instruction Time : 0

Correct Marks : 5 Wrong Marks : 1

Question Key Details :

Key	Value
Comprehension	MCQ

'Contemporary Art in India : A perspective' is a book written by

1. Pran Nath Mago
2. Jasleen Dhamija
3. K. R. Srinivasan
4. Devi Prasad

Options :

- 485584146441. 1
- 485584146442. 2
- 485584146443. 3
- 485584146444. 4

Question Number : 226 Question Id : 48558436611 Question Type : MCQ Option Shuffling : No Is Question Mandatory : No Calculator : None Response Time : N.A Think Time : N.A Minimum Instruction Time : 0

Correct Marks : 5 Wrong Marks : 1

Question Key Details :

Key	Value
Comprehension	MCQ

'ഇന്ത്യയിലെ സമകാലിക കല: ഒരു വിക്ഷണം' എന്ന ബുക്ക് എഴുതിയത്

1. പ്രാണ നാഥ് മാഗോ
2. ജസ്ലീൻ ധമിജ
3. K. R. ശ്രീനിവാസൻ
4. ദേവി പ്രസാദ്

Options :

- 485584146441. 1
- 485584146442. 2
- 485584146443. 3
- 485584146444. 4

Question Number : 227 Question Id : 48558436612 Question Type : MCQ Option Shuffling : No Is Question Mandatory : No Calculator : None Response Time : N.A Think Time : N.A Minimum Instruction Time : 0

Correct Marks : 5 Wrong Marks : 1

Question Key Details :

Key	Value
Comprehension	MCQ

A technique of portraying an object to be closer than it actually is, or having less depth or distance, is called

_____.

1. Depth of field
2. Foresbortening
3. Focusing
4. Illustration

Options :

- 485584146445. 1
- 485584146446. 2
- 485584146447. 3
- 485584146448. 4

Question Number : 227 Question Id : 48558436612 Question Type : MCQ Option Shuffling : No Is Question Mandatory : No Calculator : None Response Time : N.A Think Time : N.A Minimum Instruction Time : 0

Correct Marks : 5 Wrong Marks : 1

Question Key Details :

Key	Value
Comprehension	MCQ

യഥാർത്ഥത്തിൽ ഉള്ളതിനേക്കാൾ അടുത്തുള്ള വസ്തുവിനെയോ അല്ലെങ്കിൽ കുറഞ്ഞ ആഴത്തിലോ അകലത്തിലോ ഉള്ള വസ്തുവിനെയോ ചിത്രീകരിക്കാൻ ഉപയോഗിക്കുന്ന സാങ്കേതിക വിദ്യയെ വിളിക്കുന്നത്

1. ഫീല്ഡിന്റെ ആഴം
2. ഫോർഷോട്ടനിങ്ങ്
3. ഫോക്കസിംഗ്
4. ഇല്ലസ്‌ട്രേഷൻ

Options :

- 485584146445. 1
- 485584146446. 2
- 485584146447. 3
- 485584146448. 4

Question Number : 228 Question Id : 48558436613 Question Type : MCQ Option Shuffling : No Is Question Mandatory : No Calculator : None Response Time : N.A Think Time : N.A Minimum Instruction Time : 0

Correct Marks : 5 Wrong Marks : 1

Question Key Details :

Key	Value
Comprehension	MCQ

The artwork 'Santhal Family' made by Ramkinker Vaish is which medium/ form

1. Oil Painting
2. Mural
3. Sculpture
4. Monograph

Options :

- 485584146449. 1
- 485584146450. 2
- 485584146451. 3
- 485584146452. 4

Question Number : 228 Question Id : 48558436613 Question Type : MCQ Option Shuffling : No Is Question Mandatory : No Calculator : None Response Time : N.A Think Time : N.A Minimum Instruction Time : 0

Correct Marks : 5 Wrong Marks : 1

Question Key Details :

Key	Value
Comprehension	MCQ

രാംകിങ്കർ വൈഷിസ്, 'സന്താൾ കുടുംബം' എന്ന കലാരൂപം ഉണ്ടാക്കിയത് ഏത് രൂപത്തിൽ.

1. എണ്ണച്ചായം
2. ചുവർ ചിത്രം
3. ശില്പം
4. മോണോഗ്രാഫ്

Options :

- 485584146449. 1
- 485584146450. 2
- 485584146451. 3
- 485584146452. 4

Question Number : 229 Question Id : 48558436614 Question Type : MCQ Option Shuffling : No Is Question Mandatory : No Calculator : None Response Time : N.A Think Time : N.A Minimum Instruction Time : 0

Correct Marks : 5 Wrong Marks : 1

Question Key Details :

Key	Value
Comprehension	MCQ

Match List I with List II

LIST I		LIST II	
A.	Intrusive igneous rock	I.	Slate
B.	Extrusive igneous rock	II.	Basalt
C.	Sedimentary rock	III.	Granite
D.	Metamorphic rock	IV.	Lime stone

Choose the correct answer from the options given below:

1. A-III, B-II, C-IV, D-I
2. A-I, B-II, C-III, D-IV
3. A-IV, B-III, C-II, D-I
4. A-II, B-III, C-I, D-IV

Options :

485584146453. 1
 485584146454. 2
 485584146455. 3
 485584146456. 4

Question Number : 229 Question Id : 48558436614 Question Type : MCQ Option Shuffling : No Is Question Mandatory : No Calculator : None Response Time : N.A Think Time : N.A Minimum Instruction Time : 0

Correct Marks : 5 Wrong Marks : 1

Question Key Details :

Key	Value
Comprehension	MCQ

പട്ടിക I നെ പട്ടിക II രണ്ടുമായി ജോഡി ചെയ്യുക

പട്ടിക I		പട്ടിക II	
A.	ഇൻട്രൂസിവ് ഐഗ്നിയസ് ശില	I.	സ്ലേറ്റ്
B.	എക്സ്ട്രൂസിവ് ഐഗ്നിയസ് ശില	II.	ബസാൾട്ട്
C.	അവശിഷ്ട ശില	III.	ഗ്രാനൈറ്റ്
D.	രൂപാന്തര ശില	IV.	ലിമസ്റ്റോൺ

താഴെ തന്നിരിക്കുന്നവയിൽ നിന്ന് ശരിയായ ഇത്തരം ജോഡി രണ്ടെടുക്കുക

1. A-III, B-II, C-IV, D-I
2. A-I, B-II, C-III, D-IV
3. A-IV, B-III, C-II, D-I
4. A-II, B-III, C-I, D-IV

Options :

485584146453. 1
 485584146454. 2
 485584146455. 3
 485584146456. 4

Question Number : 230 Question Id : 48558436615 Question Type : MCQ Option Shuffling : No Is Question Mandatory : No Calculator : None Response Time : N.A Think Time : N.A Minimum Instruction Time : 0

Correct Marks : 5 Wrong Marks : 1

Question Key Details :

Key	Value
Comprehension	MCQ

The content of teaching social sciences should aim at raising students' awareness through

1. questioning of familiar social reality
2. enacting of familiar social reality
3. developing a neutral perspective on society
4. transmitting an idea of society

Options :

- 485584146457. 1
- 485584146458. 2
- 485584146459. 3
- 485584146460. 4

Question Number : 230 Question Id : 48558436615 Question Type : MCQ Option Shuffling : No Is Question Mandatory : No Calculator : None Response Time : N.A Think Time : N.A Minimum Instruction Time : 0

Correct Marks : 5 Wrong Marks : 1

Question Key Details :

Key	Value
Comprehension	MCQ

സാമൂഹ്യ ശാസ്ത്രത്തിന്റെ ഭാഗങ്ങൾ പഠിപ്പിക്കുന്നത് ലക്ഷ്യം വെക്കുന്നത് കൂട്ടികളിൽ ഏത് മാർഗത്തിലൂടെ അവബോധം വളർത്തിയെടുക്കുന്നതിനാണ്.

1. പരിചിതമായ സാമൂഹിക യാഥാർത്ഥ്യങ്ങളെ കുറിച്ച് ചോദ്യം ചെയ്യുക കൊണ്ട്
2. പരിചിതമായ സാമൂഹിക യാഥാർത്ഥ്യങ്ങളെ ചിത്രീകരിച്ചു കൊണ്ട്
3. സമൂഹത്തെക്കുറിച്ചുള്ള നിഷ്പക്ഷ വീക്ഷണം ഉണ്ടാക്കിക്കൊണ്ട്
4. സമൂഹത്തിന്റെ ആശയം വ്യാപിപ്പിച്ചുകൊണ്ട്

Options :

- 485584146457. 1
- 485584146458. 2
- 485584146459. 3
- 485584146460. 4

Question Number : 231 Question Id : 48558436616 Question Type : MCQ Option Shuffling : No Is Question Mandatory : No Calculator : None Response Time : N.A Think Time : N.A Minimum Instruction Time : 0

Correct Marks : 5 Wrong Marks : 1

Question Key Details :

Key	Value
Comprehension	MCQ

Who wrote the book "History of British India" ?

1. James Mill
2. James Raimil
3. Warren Hastings
4. Cornwallis

Options :

- 485584146461. 1
- 485584146462. 2
- 485584146463. 3
- 485584146464. 4

Question Number : 231 Question Id : 48558436616 Question Type : MCQ Option Shuffling : No Is Question Mandatory : No Calculator : None Response Time : N.A Think Time : N.A Minimum Instruction Time : 0

Correct Marks : 5 Wrong Marks : 1

Question Key Details :

Key	Value
Comprehension	MCQ

ബ്രിട്ടീഷ് ഇന്ത്യയുടെ ചരിത്രം എന്ന ബുക്ക് എഴുതിയത് ആര്?

1. ജെയിംസ് മിൽ
2. ജെയിംസ് റൈനിൽ
3. വാൽ ഹെസ്റ്റിങ്സ്
4. കോൺവാലിസ്

Options :

- 485584146461. 1
- 485584146462. 2
- 485584146463. 3
- 485584146464. 4

Question Number : 232 Question Id : 48558436617 Question Type : MCQ Option Shuffling : No Is Question Mandatory : No Calculator : None Response Time : N.A Think Time : N.A Minimum Instruction Time : 0

Correct Marks : 5 Wrong Marks : 1

Question Key Details :

Key	Value
Comprehension	MCQ

The school level social sciences encompass _____ concerns of society and include a wide range of content drawn from various disciplines.

1. unitary
2. overarching
3. diverse
4. sweeping

Options :

- 485584146465. 1
- 485584146466. 2
- 485584146467. 3
- 485584146468. 4

Question Number : 232 Question Id : 48558436617 Question Type : MCQ Option Shuffling : No Is Question Mandatory : No Calculator : None Response Time : N.A Think Time : N.A Minimum Instruction Time : 0

Correct Marks : 5 Wrong Marks : 1

Question Key Details :

Key	Value
Comprehension	MCQ

സ്കൂൾ തലത്തിലെ സാമൂഹിക ശാസ്ത്രം ഉൾക്കൊള്ളുന്നത് _____ സമൂഹത്തിലെ ആശങ്കകളും വിവിധ വിഷയങ്ങളിൽ നിന്നുള്ള ഉള്ളടക്കത്തിന്റെ വിശാലമായ ഭൂശ്രണിയുമാണ്.

1. ഏകീകൃത
2. അതിരുകടന്ന
3. വൈവിധ്യങ്ങളായ
4. സ്വീച്ചിങ്

Options :

- 485584146465. 1
- 485584146466. 2
- 485584146467. 3
- 485584146468. 4

Question Number : 233 Question Id : 48558436618 Question Type : MCQ Option Shuffling : No Is Question Mandatory : No Calculator : None Response Time : N.A Think Time : N.A Minimum Instruction Time : 0

Correct Marks : 5 Wrong Marks : 1

Question Key Details :

Key	Value
Comprehension	MCQ

Which of the following subjects has replaced 'civics' in the school syllabus?

1. Civilization
2. Social and Political life
3. Economic and Social Life
4. Nationalism

Options :

- 485584146469. 1
- 485584146470. 2
- 485584146471. 3
- 485584146472. 4

Question Number : 233 Question Id : 48558436618 Question Type : MCQ Option Shuffling : No Is Question Mandatory : No Calculator : None Response Time : N.A Think Time : N.A Minimum Instruction Time : 0

Correct Marks : 5 Wrong Marks : 1

Question Key Details :

Key	Value
Comprehension	MCQ

സ്കൂൾ സ്തലബന്ധിത പൗരശാസ്ത്രത്തിന് പകരം ഇനി പറയുന്ന വിഷയങ്ങൾ ഏത്?

1. നാഗരികതകൾ
2. സാമൂഹിക രാഷ്ട്രീയ ജീവിതം
3. സാമ്പത്തിക സാമൂഹിക ജീവിതം
4. ദേശീയത

Options :

- 485584146469. 1
- 485584146470. 2
- 485584146471. 3
- 485584146472. 4

Question Number : 234 Question Id : 48558436619 Question Type : MCQ Option Shuffling : No Is Question Mandatory : No Calculator : None Response Time : N.A Think Time : N.A Minimum Instruction Time : 0

Correct Marks : 5 Wrong Marks : 1

Question Key Details :

Key	Value
Comprehension	MCQ

Today, if a teacher wants to teach the importance of good deeds and practicing non-violence, she can use the following as a resource:

1. Ambedkar's writings
2. Jains teachings
3. Puranic Literature
4. Akbarnama

Options :

- 485584146473. 1
- 485584146474. 2
- 485584146475. 3
- 485584146476. 4

Question Number : 234 Question Id : 48558436619 Question Type : MCQ Option Shuffling : No Is Question Mandatory : No Calculator : None Response Time : N.A Think Time : N.A Minimum Instruction Time : 0

Correct Marks : 5 Wrong Marks : 1

Question Key Details :

Key	Value
Comprehension	MCQ

ഇന്ന് ഒരു ടീച്ചർക്ക് നല്ല പ്രവർത്തികളുടെ പ്രാധാന്യത്തെ കുറിച്ചും അഹിംസ ശീലിക്കുന്നതെ കുറിച്ചും പഠിപ്പിക്കാൻ ആവശ്യമുണ്ടെങ്കിൽ, അവൾക്കു താഴെ തന്നിട്ടുള്ള ഉപയോഗിക്കാവുന്ന സ്രോതസ്സ്

1. അക്ബർകുറുപ്പിന്റെ രചനകൾ
2. ജൈന മത പഠനങ്ങൾ
3. പുരാണ സാഹിത്യം
4. അക്ബർ നാമ

Options :

- 485584146473. 1
- 485584146474. 2
- 485584146475. 3
- 485584146476. 4

Question Number : 235 Question Id : 48558436620 Question Type : MCQ Option Shuffling : No Is Question Mandatory : No Calculator : None Response Time : N.A Think Time : N.A Minimum Instruction Time : 0

Correct Marks : 5 Wrong Marks : 1

Question Key Details :

Key	Value
Comprehension	MCQ

Literary devices such as simile and metaphor are used in which of the following?

1. Prose
2. Poetry
3. Grammar
4. Drama

Options :

- 485584146477. 1
- 485584146478. 2
- 485584146479. 3
- 485584146480. 4

Question Number : 235 Question Id : 48558436620 Question Type : MCQ Option Shuffling : No Is Question Mandatory : No Calculator : None Response Time : N.A Think Time : N.A Minimum Instruction Time : 0

Correct Marks : 5 Wrong Marks : 1

Question Key Details :

Key	Value
Comprehension	MCQ

താഴെ തന്നിട്ടുള്ളവയിൽ, സിമിലി, മെറ്റഫർ തുടങ്ങി സാഹിത്യ ഉപകരണങ്ങൾ ഉപയോഗിക്കുന്നത് ഏതിൽ?

1. ഗദ്യം
2. കവിത
3. വ്യാകരണം
4. നാടകം

Options :

- 485584146477. 1
- 485584146478. 2
- 485584146479. 3
- 485584146480. 4

Question Number : 236 Question Id : 48558436621 Question Type : MCQ Option Shuffling : No Is Question Mandatory : No Calculator : None Response Time : N.A Think Time : N.A Minimum Instruction Time : 0

Correct Marks : 5 Wrong Marks : 1

Question Key Details :

Key	Value
Comprehension	MCQ

'Man is a born child, his power is the power of growth.'

What is the meaning of this sentence?

1. Humans should remain stagnant
2. Humans should refrain from adding to sources of knowledge
3. Intellectual and cognitive regression are important characteristics of humans
4. Intellectual and cognitive development are important characteristics of human.

Options :

- 485584146481. 1
- 485584146482. 2
- 485584146483. 3
- 485584146484. 4

Question Number : 236 Question Id : 48558436621 Question Type : MCQ Option Shuffling : No Is Question Mandatory : No Calculator : None Response Time : N.A Think Time : N.A Minimum Instruction Time : 0

Correct Marks : 5 Wrong Marks : 1

Question Key Details :

Key	Value
Comprehension	MCQ

മനുഷ്യൻ ഒരു ജനിച്ച കുട്ടിയാണ് അവന്റെ സകുതിയാണ് അവന്റെ വളർച്ചയുടെ ശക്തിയാണ്

ഈ വാചകത്തിന്റെ അർത്ഥം എന്ത്?

1. മനുഷ്യൻ നിശ്ചലമായി നിൽക്കണം
2. മനുഷ്യൻ അറിവിന്റെ ഉറവിടത്തിലേക്കു ചേർക്കുന്നതിൽ നിന്ന് വിട്ടു നിൽക്കണം
3. ബൗദ്ധികവും വൈജ്ഞാനികവുമായ വിശ്വസനമാണ് മനുഷ്യന്റെ പ്രധാന സവിശേഷത
4. ബൗദ്ധികവും വൈജ്ഞാനികവുമായ വികസനമാണ് മനുഷ്യന്റെ പ്രധാന സവിശേഷത

Options :

- 485584146481. 1
- 485584146482. 2
- 485584146483. 3
- 485584146484. 4

Question Number : 237 Question Id : 48558436622 Question Type : MCQ Option Shuffling : No Is Question Mandatory : No Calculator : None Response Time : N.A Think Time : N.A Minimum Instruction Time : 0

Correct Marks : 5 Wrong Marks : 1

Question Key Details :

Key	Value
Comprehension	MCQ

The Booker Prize 2022 was awarded to which Indian novel?

1. The Alchemist
2. A Tomb of Sand
3. Train to Pakistan
4. One Hundred Years of Solitude

Options :

- 485584146485. 1
- 485584146486. 2
- 485584146487. 3
- 485584146488. 4

Question Number : 237 Question Id : 48558436622 Question Type : MCQ Option Shuffling : No Is Question Mandatory : No Calculator : None Response Time : N.A Think Time : N.A Minimum Instruction Time : 0

Correct Marks : 5 Wrong Marks : 1

Question Key Details :

Key	Value
Comprehension	MCQ

2022 ൽ ബുക്കർ പ്രൈസ് നേടിയ ഏതു ഇന്ത്യൻ നോവലാണ്?

1. ദി ആൽക്കമിസ്റ്റ്
2. ടോബ് ഓഫ് സാനീഡ്
3. പാകിസ്ഥാനിലേക്കുള്ള ട്രെയിൻ
4. നൂറു വർഷത്തെ ഏകാന്തത

Options :

- 485584146485. 1
- 485584146486. 2
- 485584146487. 3
- 485584146488. 4

Question Number : 238 Question Id : 48558436623 Question Type : MCQ Option Shuffling : No Is Question Mandatory : No Calculator : None Response Time : N.A Think Time : N.A Minimum Instruction Time : 0

Correct Marks : 5 Wrong Marks : 1

Question Key Details :

Key	Value
Comprehension	MCQ

What are the challenges faced by students while learning English in India?

- A. Lack of trained teachers
- B. Lack of an enabling language environment
- C. Rote memorisation of poems
- D. Objective way of testing language skills
- E. Lack of proper teaching - learning materials

Choose the correct answer from the options given below:

1. A, B, C only
2. B, C, D only
3. A, B, C, D only
4. A, B, C, D and E

Options :

- 485584146489. 1
- 485584146490. 2
- 485584146491. 3
- 485584146492. 4

Question Number : 238 Question Id : 48558436623 Question Type : MCQ Option Shuffling : No Is Question Mandatory : No Calculator : None Response Time : N.A Think Time : N.A Minimum Instruction Time : 0

Correct Marks : 5 Wrong Marks : 1

Question Key Details :

Key	Value
Comprehension	MCQ

ഇന്ത്യയിൽ ഇംഗ്ലീഷ് പഠിക്കുന്ന വിദ്യാർത്ഥികൾ നേരിടുന്ന പ്രശ്നങ്ങൾ എന്തെല്ലാം?

- A. പരിശീലനം നേടിയ അധ്യാപകരുടെ അഭാവം
- B. പ്രാവീണ്യമുള്ള ഭാഷാ പരിസ്ഥിതിയുടെ അഭാവം
- C. കമ്പിതകൾ മനപ്പാഠമാകുന്നത്
- D. ഭാഷാ വൈദഗ്ദ്ധ്യം പരിയരാധിക്കാനുള്ള വസ്തുനിഷ്ഠമായ മാർഗ്ഗം
- E. ശരിയായ പഠനോപകരണങ്ങളുടെ അഭാവം

താഴെ തന്നിരിക്കുന്നവയിൽ നിന്ന് ശരിയായ ഉത്തരം തിരഞ്ഞെടുക്കുക

- 1. A, B, C only
- 2. B, C, D only
- 3. A, B, C, D only
- 4. A, B, C, D and E

Options :

- 485584146489. 1
- 485584146490. 2
- 485584146491. 3
- 485584146492. 4

Question Number : 239 Question Id : 48558436624 Question Type : MCQ Option Shuffling : No Is Question Mandatory : No Calculator : None Response Time : N.A Think Time : N.A Minimum Instruction Time : 0

Correct Marks : 5 Wrong Marks : 1

Question Key Details :

Key	Value
Comprehension	MCQ

What is a biography?

- 1. An account of a person written by oneself.
- 2. An account of a person written by others.
- 3. A book of biology.
- 4. A historical account.

Options :

- 485584146493. 1
- 485584146494. 2
- 485584146495. 3
- 485584146496. 4

Question Number : 239 Question Id : 48558436624 Question Type : MCQ Option Shuffling : No Is Question Mandatory : No Calculator : None Response Time : N.A Think Time : N.A Minimum Instruction Time : 0

Correct Marks : 5 Wrong Marks : 1

Question Key Details :

Key	Value
Comprehension	MCQ

എന്താണ് ജീവ ചരിത്രം

1. ഒരാൾ എഴുതിയ അയാളുടെ തന്നെ അക്കൗണ്ട്
2. മറ്റുള്ളവർ എഴുതിയ ഒരാളുടെ അക്കൗണ്ട്
3. ഒരു ബന്ധുജി ബുക്ക്
4. ഒരു ചരിത്ര വിവരണം

Options :

485584146493. 1
485584146494. 2
485584146495. 3
485584146496. 4

Question Number : 240 Question Id : 48558436625 Question Type : MCQ Option Shuffling : No Is Question Mandatory : No Calculator : None Response Time : N.A Think Time : N.A Minimum Instruction Time : 0

Correct Marks : 5 Wrong Marks : 1

Question Key Details :

Key	Value
Comprehension	MCQ

How can grammar books be modified to minimise the difficulties learners face while learning grammar?

- A. By teaching grammar in context
- B. By including pictures and illustrations
- C. By giving more practice and examples
- D. By focusing only on the rules
- E. By translating in different languages

Choose the correct answer from the options given below:

1. A, B, C only
2. A, D, E only
3. C, D, E only
4. B, C, D only

Options :

485584146497. 1
485584146498. 2
485584146499. 3
485584146500. 4

Question Number : 240 Question Id : 48558436625 Question Type : MCQ Option Shuffling : No Is Question Mandatory : No Calculator : None Response Time : N.A Think Time : N.A Minimum Instruction Time : 0

Correct Marks : 5 Wrong Marks : 1

Question Key Details :

Key	Value
Comprehension	MCQ

വ്യാകരണം പഠിക്കുന്ന സമയത്ത് പഠിതാക്കൾ അഭിമുഖീകരിക്കുന്ന പ്രയാസങ്ങൾ കുറയ്ക്കുന്നതിനു വ്യാകരണ ബുക്കുകളെ എങ്ങനെ പരിഷ്കരിക്കാം?

- A. സന്ദർഭത്തിൽ വ്യാകരണം പഠിച്ചുകൊണ്ട്
- B. ചിത്രങ്ങളും ചിത്രീകരണങ്ങളും ഉൾപ്പെടുത്തിക്കൊണ്ട്
- C. കൂടുതൽ പരിശീലനവും മാതൃകകളും നൽകിക്കൊണ്ട്
- D. നിയമങ്ങളെ മാത്രം പിന്തുടർന്ന് കൊണ്ട്
- E. വ്യത്യസ്ത ഭാഷകളിലേക്ക് വിവർത്തനം ചെയ്യുകൊണ്ട്

താഴെ തന്നിരിക്കുന്നവയിൽ നിന്ന് ശരിയായ ഉത്തരം തിരഞ്ഞെടുക്കുക

- 1. A, B, C only
- 2. A, D, E only
- 3. C, D, E only
- 4. B, C, D only

Options :

- 485584146497. 1
- 485584146498. 2
- 485584146499. 3
- 485584146500. 4

Sub-Section Number : 2
 Sub-Section Id : 4855842703
 Question Shuffling Allowed : No
 Is Section Default? : null

Question Number : 241 Question Id : 48558436626 Question Type : MCQ Option Shuffling : No Is Question Mandatory : No Calculator : None
 Response Time : N.A Think Time : N.A Minimum Instruction Time : 0
 Correct Marks : 5 Wrong Marks : 1

Question Key Details :

Key	Value
Comprehension	Comp1

At the upper primary level, the emphasis is on engaging the learner in learning principles of science through familiar experiences, working with hands to design simple technological units and modules and continuing to learn more on environment and health through activities and surveys.

As a science teacher, you will agree that scientific concepts are learnt better if learners explore them through activities and experiments. Learners should be given opportunity to explore science in their everyday experiences. You should engage learners (preferably in groups) in meaningful investigations - particularly of the problems they perceive to be significant and important.

As a science teacher, you should encourage discussions with the teacher and peers. You can ask your learners to gather information from newspapers, knowledgeable persons in the neighborhood, and from easily available sources and discuss about them in class with peers and teachers.

Role play, skits, cooperative learning strategies should be adopted to ensure larger participation and sharing of learning outcomes. It is advised that biographical narratives of scientists and inventors can be used. You should keep in mind that efforts should be continued for development of the process skills of science.

In order to explore the orbits and distribution of electrons in orbits, which could be the most appropriate teaching strategy/method?

1. Lecture
2. Demonstration
3. Brain-storming followed by exercise
4. Numerical Practice

Options :

485584146501. 1
485584146502. 2
485584146503. 3
485584146504. 4

Question Number : 241 Question Id : 48558436626 Question Type : MCQ Option Shuffling : No Is Question Mandatory : No Calculator : None Response Time : N.A Think Time : N.A Minimum Instruction Time : 0

Correct Marks : 5 Wrong Marks : 1

Question Key Details :

Key	Value
Comprehension	Comp1

അച്ചുതൂണിനെ പ്രതിനിധീകരിക്കുന്ന നിലയിൽ, പരിചിതമായ അനുഭവങ്ങളിലൂടെ ശാസ്ത്രത്തിന്റെ തത്വങ്ങൾ പഠിക്കുന്നതിൽ പഠിതാവിനെ ഇടപഴിക്കുക, ലളിതമായ സാങ്കേതിക യൂണിറ്റുകളും മോഡ്യൂളുകളും രൂപകൽപന ചെയ്യാൻ അവരുടെ കൂടെ നിന്ന് പ്രവർത്തിക്കുക, പ്രവർത്തനങ്ങളിലൂടെയും സർവ്വകലിളകലുകളുടെയും പരിസ്ഥിതിയെയും ആരോഗ്യത്തെയും കുറിച്ച് കൂടുതൽ പഠിക്കുന്നതിൽ തുടരുക.

ഒരു ശാസ്ത്ര അധ്യാപകനെന്ന നിലയിൽ, പഠിതാവ് പ്രവർത്തനങ്ങളിലൂടെയും അവ പര്യവേഷണം ചെയ്യുകയാണെങ്കിൽ ശാസ്ത്രീയ ആശയങ്ങൾ നന്നായി പഠിക്കുമെന്ന് നിങ്ങൾ സമ്മതിക്കും. പഠിതാക്കൾക്ക് അവരുടെ ദൈനംദിന അനുഭവങ്ങളിൽ ശാസ്ത്രം പര്യവേഷണം ചെയ്യാൻ അവസരം നൽകണം. നിങ്ങൾ പഠിതാക്കളെ (ഗ്രൂപ്പുകളിൽ അഭികാമ്യം) അർത്ഥവത്തായ അന്വേഷണങ്ങളിൽ ഏർപ്പെടുത്തണം-വിശദീകരിച്ചും പ്രധാനമുളളതായി അവർ മനസ്സിലാക്കുന്ന പ്രശ്നങ്ങളെ കുറിച്ച്.

ഒരു സയൻസ് ടീച്ചർ എന്ന നിലയിൽ നിങ്ങൾ അധ്യാപകരുമായും സമപ്രായക്കാരുമായും ചർച്ചകൾ പ്രോത്സാഹിപ്പിക്കണം. നിങ്ങളുടെ പഠിതാക്കളോട് പത്രങ്ങളിൽ നിന്നും അയൽപക്കത്തുള്ള അറിവുള്ള വ്യക്തികളിൽനിന്നും എളുപ്പത്തിൽ ലഭ്യമായ ഉറവിടങ്ങളിൽ നിന്നും വിവരങ്ങൾ ശേഖരിക്കാനും ക്ലാസ്സിൽ സഹപാഠികളോടും അധ്യാപകരോടും ചർച്ച ചെയ്യാനായി ആവശ്യപ്പെടാം.

പഠന ഫലങ്ങളുടെ വലിയ പങ്കാളിത്തവും പങ്കുവയ്ക്കലും ഉറപ്പാക്കാൻ റോൾ പ്ലേ, സ്റ്റീറ്റുകൾ, സഹകരണ പഠന തന്ത്രങ്ങൾ എന്നിവ സ്വീകരിക്കണം. ശാസ്ത്രജ്ഞരുടെയും കണ്ടുപിടുത്തക്കാരുടെയും ജീവചരിത്ര വിവരങ്ങൾ ഉപയോഗിക്കാമെന്ന് ഉപദേശിക്കുന്നു. ശാസ്ത്രത്തിന്റെ പ്രക്രിയയിൽ കഴിവുകൾ വികസിപ്പിക്കാനുള്ള ശ്രമങ്ങൾ തുടരേണ്ടതുണ്ടെന്ന് നിങ്ങൾ ഒർക്കണം.

ഒർബിറ്റുകളെയും ഓർബിറ്റുകളിൽ വിതരണം ചെയ്തിട്ടുള്ള ഇലക്ട്രോണുകളെയും പട്ടിക വ്യക്തമായി മനസ്സിലാക്കുന്നതിന് ഏറ്റവും ഉചിതമായ അധ്യാപന തന്ത്രം ഏത്?

1. പ്രദർശനം
2. പ്രകടനം
3. ബ്രെയിൻ -സ്റ്റോമിംഗ് തുടർന്ന് എക്സ്പെരിമെന്റ്
4. സംഖ്യ പ്രാക്ടീസ്

Options :

485584146501. 1

485584146502. 2
485584146503. 3
485584146504. 4

Question Number : 242 Question Id : 48558436627 Question Type : MCQ Option Shuffling : No Is Question Mandatory : No Calculator : None
Response Time : N.A Think Time : N.A Minimum Instruction Time : 0

Correct Marks : 5 Wrong Marks : 1

Question Key Details :

Key	Value
Comprehension	Comp1

At the upper primary level, the emphasis is on engaging the learner in learning principles of science through familiar experiences, working with hands to design simple technological units and modules and continuing to learn more on environment and health through activities and surveys.

As a science teacher, you will agree that scientific concepts are learnt better if learners explore them through activities and experiments. Learners should be given opportunity to explore science in their everyday experiences. You should engage learners (preferably in groups) in meaningful investigations - particularly of the problems they perceive to be significant and important.

As a science teacher, you should encourage discussions with the teacher and peers. You can ask your learners to gather information from newspapers, knowledgeable persons in the neighborhood, and from easily available sources and discuss about them in class with peers and teachers.

Role play, skits, cooperative learning strategies should be adopted to ensure larger participation and sharing of learning outcomes. It is advised that biographical narratives of scientists and inventors can be used. You should keep in mind that efforts should be continued for development of the process skills of science.

Which would be the most appropriate teaching learning material to explain different types of atomic models?

1. Charts
2. Pictures
3. Video animation
4. Black board

Options :

485584146505. 1
485584146506. 2
485584146507. 3
485584146508. 4

Question Number : 242 Question Id : 48558436627 Question Type : MCQ Option Shuffling : No Is Question Mandatory : No Calculator : None
Response Time : N.A Think Time : N.A Minimum Instruction Time : 0

Correct Marks : 5 Wrong Marks : 1

Question Key Details :

Key	Value
Comprehension	Comp1

അപ്പർ പ്രൈമറി തലം എന്ന നിലയിൽ, പരിചിതമായ അനുഭവങ്ങളിലൂടെ ശാസ്ത്രത്തിന്റെ തത്വങ്ങൾ പഠിക്കുന്നതിൽ പഠിതാവിനെ ഇടപഴകുക, ലളിതമായ സാങ്കേതിക യൂണിറ്റുകളും മോഡ്യൂളുകളും രൂപകൽപന ചെയ്യാൻ അവരുടെ കൂടെ നിന്ന് പ്രവർത്തിക്കുക, പ്രവർത്തനങ്ങളിലൂടെയും സർവ്വകലിലൂടെയും പരിസ്ഥിതിയെയും ആരോഗ്യത്തെയും കുറിച്ച് കൂടുതൽ പഠിക്കുന്നതിൽ തുടരുക.

ഒരു ശാസ്ത്ര അധ്യാപകനെന്ന നിലയിൽ, പഠിതാവ് പ്രവർത്തനങ്ങളിലൂടെയും അവ പര്യവേഷണം ചെയ്യുകയാണെങ്കിൽ ശാസ്ത്രീയ ആശയങ്ങൾ നന്നായി പഠിക്കുമെന്ന് നിങ്ങൾ സമ്മതിക്കും. പഠിതാക്കൾക്ക് അവരുടെ ദൈനംദിന അനുഭവങ്ങളിൽ ശാസ്ത്രം പര്യവേഷണം ചെയ്യാൻ അവസരം നൽകണം. നിങ്ങൾ പഠിതാക്കളെ (ഗ്രൂപ്പുകളിൽ അഭികാമ്യം) അർത്ഥവത്തായ അന്വേഷണങ്ങളിൽ ഏർപ്പെടുത്തണം-വിശേഷിച്ചും പ്രധാനമുള്ളതായി അവർ മനസ്സിലാക്കുന്ന പ്രശ്നങ്ങളെ കുറിച്ച്.

ഒരു സയൻസ് ടീച്ചർ എന്ന നിലയിൽ നിങ്ങൾ അധ്യാപകരുമായും സമപ്രായക്കാരുമായും ചർച്ചകൾ പ്രോത്സാഹിപ്പിക്കണം. നിങ്ങളുടെ പഠിതാക്കളോട് പത്രങ്ങളിൽ നിന്നും അയൻപക്കത്തുള്ള അറിവുള്ള വ്യക്തികളിൽനിന്നും എളുപ്പത്തിൽ ലഭ്യമായ ഉറവിടങ്ങളിൽ നിന്നും വിവരങ്ങൾ ശേഖരിക്കാനും ക്ലാസ്സിൽ സഹപാഠികളോടും അധ്യാപകരോടും ചർച്ച ചെയ്യാനായി ആവശ്യപ്പെടാം.

പഠന ഫലങ്ങളുടെ വലിയ പങ്കാളിത്തവും പങ്കുവയ്ക്കലും ഉറപ്പാക്കാൻ റോൾ പ്ലേ, സ്റ്റീറുകൾ, സഹകരണ പഠന തന്ത്രങ്ങൾ എന്നിവ സ്വീകരിക്കണം. ശാസ്ത്രജ്ഞരുടെയും കണ്ടുപിടുത്തക്കാരുടെയും ജീവചരിത്ര വിവരങ്ങൾ ഉപയോഗിക്കാമെന്ന് ഉപദേശിക്കുന്നു. ശാസ്ത്രത്തിന്റെ പ്രക്രിയയിൽ കഴിവുകൾ വികസിപ്പിക്കാനുള്ള ശ്രമങ്ങൾ തുടരേണ്ടതുണ്ടെന്ന് നിങ്ങൾ ഒർക്കണം.

വ്യത്യസ്ത ആറ്റോമിക മാതൃകകൾ വിശദീകരിക്കാനായി ഉപയോഗിക്കാവുന്ന ഏറ്റവും അനുയോജ്യമായ പഠനോപകരണം ഏത്?

1. ചാർട്ടുകൾ
2. പടങ്ങൾ
3. വീഡിയോ ആനിമേഷൻ
4. ബ്ലാക്ക് ബോർഡ്

Options :

- 485584146505. 1
- 485584146506. 2
- 485584146507. 3
- 485584146508. 4

Question Number : 243 Question Id : 48558436628 Question Type : MCQ Option Shuffling : No Is Question Mandatory : No Calculator : None Response Time : N.A Think Time : N.A Minimum Instruction Time : 0

Correct Marks : 5 Wrong Marks : 1

Question Key Details :

Key	Value
Comprehension	Comp1

At the upper primary level, the emphasis is on engaging the learner in learning principles of science through familiar experiences, working with hands to design simple technological units and modules and continuing to learn more on environment and health through activities and surveys.

As a science teacher, you will agree that scientific concepts are learnt better if learners explore them through activities and experiments. Learners should be given opportunity to explore science in their everyday experiences. You should engage learners (preferably in groups) in meaningful investigations - particularly of the problems they perceive to be significant and important.

As a science teacher, you should encourage discussions with the teacher and peers. You can ask your learners to gather information from newspapers, knowledgeable persons in the neighborhood, and from easily available sources and discuss about them in class with peers and teachers.

Role play, skits, cooperative learning strategies should be adopted to ensure larger participation and sharing of learning outcomes. It is advised that biographical narratives of scientists and inventors can be used. You should keep in mind that efforts should be continued for development of the process skills of science.

If a teacher is teaching types of sub-atomic particles and their charges, which could be the most appropriate tool for assessment?

1. Unit tests
2. Oral test
3. A field project
4. Crossword puzzle

Options :

485584146509. 1

485584146510. 2

485584146511. 3

485584146512. 4

Question Number : 243 Question Id : 48558436628 Question Type : MCQ Option Shuffling : No Is Question Mandatory : No Calculator : None Response Time : N.A Think Time : N.A Minimum Instruction Time : 0

Correct Marks : 5 Wrong Marks : 1

Question Key Details :

Key	Value
Comprehension	Comp1

അച്ചൻ പ്രൈമറി തലം എന്ന നിലയിൽ, പരിചിതമായ അനുഭവങ്ങളിലൂടെ ശാസ്ത്രത്തിന്റെ തത്വങ്ങൾ പഠിക്കുന്നതിൽ പഠിതാവിനെ ഇടപഴകുക, ലളിതമായ സാങ്കേതിക യൂണിറ്റുകളും മോഡ്യൂളുകളും രൂപകൽപന ചെയ്യാൻ അവരുടെ കൂടെ നിന്ന് പ്രവർത്തിക്കുക, പ്രവർത്തനങ്ങളിലൂടെയും സർവ്വകലിലൂടെയും പരിസ്ഥിതിയെയും ആരോഗ്യത്തെയും കുറിച്ച് കൂടുതൽ പഠിക്കുന്നതിൽ തുടരുക.

ഒരു ശാസ്ത്ര അധ്യാപകനെന്ന നിലയിൽ, പഠിതാവ് പ്രവർത്തനങ്ങളിലൂടെയും അവ പര്യവേഷണം ചെയ്യുകയാണെങ്കിൽ ശാസ്ത്രീയ ആശയങ്ങൾ നന്നായി പഠിക്കുമെന്ന് നിങ്ങൾ സമ്മതിക്കും. പഠിതാക്കൾക്ക് അവരുടെ ദൈനംദിന അനുഭവങ്ങളിൽ ശാസ്ത്രം പര്യവേഷണം ചെയ്യാൻ അവസരം നൽകണം. നിങ്ങൾ പഠിതാക്കളെ (ഗ്രൂപ്പുകളിൽ അഭികാമ്യം) അർത്ഥവത്തായ അന്വേഷണങ്ങളിൽ ഏർപ്പെടുത്തണം-വിശേഷിച്ചും പ്രധാനമുള്ളതായി അവർ മനസ്സിലാക്കുന്ന പ്രശ്നങ്ങളെ കുറിച്ച്.

ഒരു സയൻസ് ടീച്ചർ എന്ന നിലയിൽ നിങ്ങൾ അധ്യാപകരുമായും സമുപായക്കാരുമായും ചർച്ചകൾ പ്രോത്സാഹിപ്പിക്കണം. നിങ്ങളുടെ പഠിതാക്കളോട് പത്രങ്ങളിൽ നിന്നും അയൻപക്കത്തുള്ള അറിവുള്ള വ്യക്തികളിൽനിന്നും എളുപ്പത്തിൽ ലഭ്യമായ ഉറവിടങ്ങളിൽ നിന്നും വിവരങ്ങൾ ശേഖരിക്കാനും ക്ലാസ്സിൽ സഹപാഠികളോടും അധ്യാപകരോടും ചർച്ച ചെയ്യാനായി ആവശ്യപ്പെടാം.

പഠന ഫലങ്ങളുടെ വലിയ പങ്കാളിത്തവും പങ്കുവയ്ക്കലും ഉറപ്പാക്കാൻ റോൾ പ്ലേ, സ്റ്റിറിയോകൾ, സഹകരണ പഠന തന്ത്രങ്ങൾ എന്നിവ സ്വീകരിക്കണം. ശാസ്ത്രജ്ഞരുടെയും കണ്ടുപിടുത്തക്കാരുടെയും ജീവചരിത്ര വിവരങ്ങൾ ഉപയോഗിക്കാമെന്ന് ഉപദേശിക്കുന്നു. ശാസ്ത്രത്തിന്റെ പ്രക്രിയയിൽ കഴിവുകൾ വികസിപ്പിക്കാനുള്ള ശ്രമങ്ങൾ തുടരേണ്ടതുണ്ടെന്ന് നിങ്ങൾ ഒർക്കണം.

വിവിധ-സബ് ആറ്റോമിക ഘടകങ്ങളെയും അവയുടെ ചാർജുകളെയും കുറിച്ച് ഒരു ടീച്ചർ പഠിപ്പിക്കുകയാണെങ്കിൽ, മൂല്യ നിർണയത്തിനുള്ള ഉചിതമായ ഉപകരണം ഏത്?

1. യൂണിറ്റ് ടെസ്റ്റുകൾ
2. വാക്കാലുള്ള പരിശോധന
3. ഒരു ഫീൽഡ് പ്രോജക്ട്
4. ക്രോസ് വേരിഡ് പത്രിക

Options :

- 485584146509. 1
- 485584146510. 2
- 485584146511. 3
- 485584146512. 4

Question Number : 244 Question Id : 48558436629 Question Type : MCQ Option Shuffling : No Is Question Mandatory : No Calculator : None Response Time : N.A Think Time : N.A Minimum Instruction Time : 0 Correct Marks : 5 Wrong Marks : 1

Question Key Details :

Key	Value
Comprehension	Comp1

At the upper primary level, the emphasis is on engaging the learner in learning principles of science through familiar experiences, working with hands to design simple technological units and modules and continuing to learn more on environment and health through activities and surveys.

As a science teacher, you will agree that scientific concepts are learnt better if learners explore them through activities and experiments. Learners should be given opportunity to explore science in their everyday experiences. You should engage learners (preferably in groups) in meaningful investigations - particularly of the problems they perceive to be significant and important.

As a science teacher, you should encourage discussions with the teacher and peers. You can ask your learners to gather information from newspapers, knowledgeable persons in the neighborhood, and from easily available sources and discuss about them in class with peers and teachers.

Role play, skits, cooperative learning strategies should be adopted to ensure larger participation and sharing of learning outcomes. It is advised that biographical narratives of scientists and inventors can be used. You should keep in mind that efforts should be continued for development of the process skills of science.

Which among the following objectives belongs to 'creating' cognitive process domain?

1. making a simple torch
2. explaining how a bulb glows
3. selecting suitable cell for torch
4. Indicating direction of flow of currents

Options :

485584146513. 1

485584146514. 2

485584146515. 3

485584146516. 4

Question Number : 244 Question Id : 48558436629 Question Type : MCQ Option Shuffling : No Is Question Mandatory : No Calculator : None Response Time : N.A Think Time : N.A Minimum Instruction Time : 0

Correct Marks : 5 Wrong Marks : 1

Question Key Details :

Key	Value
Comprehension	Comp1

അച്ചർ പ്രൈമറി തലം എന്ന നിലയിൽ, പരിചിതമായ അനുഭവങ്ങളിലൂടെ ശാസ്ത്രത്തിന്റെ തത്വങ്ങൾ പഠിക്കുന്നതിൽ പഠിതാവിനെ ഇടപഴകുക, ലളിതമായ സാങ്കേതിക യൂണിറ്റുകളും മോഡ്യൂളുകളും രൂപകൽപന ചെയ്യാൻ അവരുടെ കൂടെ നിന്ന് പ്രവർത്തിക്കുക, പ്രവർത്തനങ്ങളിലൂടെയും സർവ്വകലിലൂടെയും പരിസ്ഥിതിയെയും ആരോഗ്യത്തെയും കുറിച്ച് കൂടുതൽ പഠിക്കുന്നതിൽ തുടരുക.

ഒരു ശാസ്ത്ര അധ്യാപകനെന്ന നിലയിൽ, പഠിതാവ് പ്രവർത്തനങ്ങളിലൂടെയും അവ പര്യവേഷണം ചെയ്യുകയാണെങ്കിൽ ശാസ്ത്രീയ ആശയങ്ങൾ നന്നായി പഠിക്കുമെന്ന് നിങ്ങൾ സമ്മതിക്കും. പഠിതാക്കൾക്ക് അവരുടെ ദൈനംദിന അനുഭവങ്ങളിൽ ശാസ്ത്രം പര്യവേഷണം ചെയ്യാൻ അവസരം നൽകണം. നിങ്ങൾ പഠിതാക്കളെ (ഗ്രൂപ്പുകളിൽ അഭികാമ്യം) അർത്ഥവത്തായ അന്വേഷണങ്ങളിൽ ഏർപ്പെടുത്തണം-വിശേഷിച്ചും പ്രധാനമുള്ളതായി അവർ മനസ്സിലാക്കുന്ന പ്രശ്നങ്ങളെ കുറിച്ച്.

ഒരു സയൻസ് ടീച്ചർ എന്ന നിലയിൽ നിങ്ങൾ അധ്യാപകരുമായും സമപ്രായക്കാരുമായും ചർച്ചകൾ പ്രോത്സാഹിപ്പിക്കണം. നിങ്ങളുടെ പഠിതാക്കളോട് പത്രങ്ങളിൽ നിന്നും അയൻപക്കത്തുള്ള അറിവുള്ള വ്യക്തികളിൽനിന്നും എളുപ്പത്തിൽ ലഭ്യമായ ഉറവിടങ്ങളിൽ നിന്നും വിവരങ്ങൾ ശേഖരിക്കാനും ക്ലാസ്സിൽ സഹപാഠികളോടും അധ്യാപകരോടും ചർച്ച ചെയ്യാനായി ആവശ്യപ്പെടാം.

പഠന ഫലങ്ങളുടെ വലിയ പങ്കാളിത്തവും പങ്കുവയ്ക്കലും ഉറപ്പാക്കാൻ റോൾ പ്ലേ, സ്റ്റിറിയോകൾ, സഹകരണ പഠന തന്ത്രങ്ങൾ എന്നിവ സ്വീകരിക്കണം. ശാസ്ത്രജ്ഞരുടെയും കണ്ടുപിടുത്തക്കാരുടെയും ജീവചരിത്ര വിവരങ്ങൾ ഉപയോഗിക്കാമെന്ന് ഉപദേശിക്കുന്നു. ശാസ്ത്രത്തിന്റെ പ്രക്രിയയിൽ കഴിവുകൾ വികസിപ്പിക്കാനുള്ള ശ്രമങ്ങൾ തുടരേണ്ടതുണ്ടെന്ന് നിങ്ങൾ ഒർക്കണം.

താഴെ തന്നിട്ടുള്ള ലക്ഷ്യങ്ങളിൽ ഏതാണ് കൊഗ്നീവ് പ്രോസസ്സ് ഡൊമെയ്നുമായി ബന്ധപ്പെട്ടിരിക്കുന്നത്

1. ഒരു ചെറിയ ടോർച്ച് നിർമ്മിക്കുന്നത്
2. എങ്ങനെ ബൾബ് പ്രകാശിക്കുന്നു എന്ന് വിശദമാക്കുന്നത്
3. ടോർച്ചിന് അനുയോജ്യമായ ഒരു ബാറ്ററി തിരഞ്ഞെടുക്കുന്നത്
4. വൈദ്യുത പ്രവാഹത്തിന്റെ ദിശയെ സൂചിപ്പിക്കുന്നത്

Options :
 485584146513. 1
 485584146514. 2
 485584146515. 3
 485584146516. 4

Question Number : 245 Question Id : 48558436630 Question Type : MCQ Option Shuffling : No Is Question Mandatory : No Calculator : None Response Time : N.A Think Time : N.A Minimum Instruction Time : 0 Correct Marks : 5 Wrong Marks : 1

Question Key Details :

Key	Value
Comprehension	Comp1

At the upper primary level, the emphasis is on engaging the learner in learning principles of science through familiar experiences, working with hands to design simple technological units and modules and continuing to learn more on environment and health through activities and surveys.

As a science teacher, you will agree that scientific concepts are learnt better if learners explore them through activities and experiments. Learners should be given opportunity to explore science in their everyday experiences. You should engage learners (preferably in groups) in meaningful investigations - particularly of the problems they perceive to be significant and important.

As a science teacher, you should encourage discussions with the teacher and peers. You can ask your learners to gather information from newspapers, knowledgeable persons in the neighborhood, and from easily available sources and discuss about them in class with peers and teachers.

Role play, skits, cooperative learning strategies should be adopted to ensure larger participation and sharing of learning outcomes. It is advised that biographical narratives of scientists and inventors can be used. You should keep in mind that efforts should be continued for development of the process skills of science.

Which among the following is a teacher-centered objective?

1. Children identify different types of nutrition in plants.
2. Children explain various methods of getting nutrition in plants.
3. Teachers show images of autotrophic and heterotrophic nutrition.
4. Teachers explain the definition of nutrition and make students memorize it.

Options :

485584146517. 1

485584146518. 2

485584146519. 3

485584146520. 4

Question Number : 245 Question Id : 48558436630 Question Type : MCQ Option Shuffling : No Is Question Mandatory : No Calculator : None Response Time : N.A Think Time : N.A Minimum Instruction Time : 0

Correct Marks : 5 Wrong Marks : 1

Question Key Details :

Key	Value
Comprehension	Comp1

അപ്പൂർ പ്രൈമറി തലം എന്ന നിലയിൽ, പരിചിതമായ അനുഭവങ്ങളിലൂടെ ശാസ്ത്രത്തിന്റെ തത്വങ്ങൾ പഠിക്കുന്നതിൽ പഠിതാവിനെ ഇടപഴകുക, ലളിതമായ സാങ്കേതിക യൂണിറ്റുകളും മോഡ്യൂളുകളും രൂപകൽപന ചെയ്യാൻ അവരുടെ കൂടെ നിന്ന് പ്രവർത്തിക്കുക, പ്രവർത്തനങ്ങളിലൂടെയും സർവ്വകലിളകലിലൂടെയും പരിസ്ഥിതിയെയും ആരോഗ്യത്തെയും കുറിച്ച് കൂടുതൽ പഠിക്കുന്നതിൽ തുടരുക.

ഒരു ശാസ്ത്ര അധ്യാപകനെന്ന നിലയിൽ, പഠിതാവ് പ്രവർത്തനങ്ങളിലൂടെയും അവ പര്യവേഷണം ചെയ്യുകയാണെങ്കിൽ ശാസ്ത്രീയ ആശയങ്ങൾ നന്നായി പഠിക്കുമെന്ന് നിങ്ങൾ സമ്മതിക്കും. പഠിതാക്കൾക്ക് അവരുടെ ദൈനംദിന അനുഭവങ്ങളിൽ ശാസ്ത്രം പര്യവേഷണം ചെയ്യാൻ അവസരം നൽകണം. നിങ്ങൾ പഠിതാക്കളെ (ഗ്രൂപ്പുകളിൽ അഭികാമ്യം) അർത്ഥവത്തായ അന്വേഷണങ്ങളിൽ ഏർപ്പെടുത്തണം-വിശേഷിച്ചും പ്രധാനമുളളതായി അവർ മനസ്സിലാക്കുന്ന പ്രശ്നങ്ങളെ കുറിച്ച്.

ഒരു സയൻസ് ടീച്ചർ എന്ന നിലയിൽ നിങ്ങൾ അധ്യാപകരുമായും സമപ്രായക്കാരുമായും ചർച്ചകൾ പ്രോത്സാഹിപ്പിക്കണം. നിങ്ങളുടെ പഠിതാക്കളോട് പത്രങ്ങളിൽ നിന്നും അയൻപക്കത്തുള്ള അറിവുള്ള വ്യക്തികളിൽനിന്നും എളുപ്പത്തിൽ ലഭ്യമായ ഉറവിടങ്ങളിൽ നിന്നും വിവരങ്ങൾ ശേഖരിക്കാനും ക്ലാസ്സിൽ സഹപാഠികളോടും അധ്യാപകരോടും ചർച്ച ചെയ്യാനായി ആവശ്യപ്പെടാം.

പഠന ഫലങ്ങളുടെ വലിയ പങ്കാളിത്തവും പങ്കുവയ്ക്കലും ഉറപ്പാക്കാൻ റോൾ പ്ലേ, സ്റ്റീറുകൾ, സഹകരണ പഠന തന്ത്രങ്ങൾ എന്നിവ സ്വീകരിക്കണം. ശാസ്ത്രജ്ഞരുടെയും കണ്ടുപിടുത്തക്കാരുടെയും ജീവചരിത്ര വിവരങ്ങൾ ഉപയോഗിക്കാമെന്ന് ഉപദേശിക്കുന്നു. ശാസ്ത്രത്തിന്റെ പ്രക്രിയയിൽ കഴിവുകൾ വികസിപ്പിക്കാനുള്ള ശ്രമങ്ങൾ തുടരേണ്ടതുണ്ടെന്ന് നിങ്ങൾ ഒർക്കണം.

താഴെ തന്നിട്ടുള്ളവയിൽ അധ്യാപക-കേന്ദ്രീകൃത ലക്ഷ്യത്തിൽ വരുന്നത് ഏത്?

1. കുട്ടികൾ സസ്യങ്ങളിലെ വ്യത്യസ്ത പോഷകങ്ങളെ തിരിച്ചറിഞ്ഞുകൊണ്ട്
2. കുട്ടികൾ സസ്യങ്ങൾക്ക് കിട്ടുന്ന പോഷണത്തിന്റെ വ്യത്യസ്ത മാർഗങ്ങളെ കുറിച്ച് വിശദീകരിക്കുന്നു
3. സ്വപോഷി, പരപോഷി പോഷണത്തിന്റെ പടങ്ങൾ അധ്യാപകർ കാണിച്ചുകൊണ്ട്
4. അധ്യാപകർ പോഷണത്തിന്റെ നിർവചനം വിശദമാക്കുകയും അത് കുട്ടികളോട് ഓർത്തെടുക്കാൻ ആവശ്യപ്പെടുകയും ചെയ്യുന്നു

Options :

- 485584146517. 1
- 485584146518. 2
- 485584146519. 3
- 485584146520. 4

Sub-Section Number : 3
Sub-Section Id : 4855842704
Question Shuffling Allowed : No
Is Section Default? : null

Question Number : 246 Question Id : 48558436631 Question Type : MCQ Option Shuffling : No Is Question Mandatory : No Calculator : None Response Time : N.A Think Time : N.A Minimum Instruction Time : 0

Correct Marks : 5 Wrong Marks : 1

Question Key Details :

Key	Value
Comprehension	Comp2

The spider's web occupies a much larger space than does the animal itself. The web represents the spider's field of action in acting as a trap for insects. It is constructed according to a plan. A thread secreted by the spider joins two branches, two rocks, two supports of any kind; then he weaves the rays. The construction proceeds according to a plan. Finally the spider weaves the thread around the center, going around at an always very carefully calculated distance. If the points of support are close together, the web is small. The greater the distance of one from the other, the larger the web will be. But it will always be woven with the same exactness according to a precise plan.

As is the web, so is the mind of the child constructed according to an exact plan. The abstract construction enables him to grasp what happens in his field, which was out of his range heretofore.

Depending on whether the child lives in a simple civilisation or in a complicated world, his web will be more or less large and will enable him to attain more or fewer objectives.

This is why we must respect the interior construction and its manifestations, which may at times seem useless to us. The construction is necessary. It is thanks to this work that the child enlarges his psychic field and subsequently his receptive powers.

To consider the school as the place where instruction is given is one point of view. But to consider the school as a preparation for life is another. In the latter case the school must satisfy all the needs of life.

An education that suppresses the true nature of the child is an education that leads to the development of anomalies.

Scouting, which, outside of school, has brought an organised form of life to children, has therefore always interested us.

According to the passage, what is the significance of a spider's web to a child's education?

1. Education must be spread out in all domains.
2. Field-based learning is a crucial aspect of education.
3. The administrative web poses an impediment to education.
4. A child's mind is also constructed like a web.

Options :

- 485584146521. 1
- 485584146522. 2
- 485584146523. 3
- 485584146524. 4

Question Number : 246 Question Id : 48558436631 Question Type : MCQ Option Shuffling : No Is Question Mandatory : No Calculator : None Response Time : N.A Think Time : N.A Minimum Instruction Time : 0

Correct Marks : 5 Wrong Marks : 1

Question Key Details :

Key	Value
Comprehension	Comp2

ചിലന്തിവല ചിലന്തിയേക്കാൾ വളരെ വലിയ ഇടമാണ് ഉൾകൊള്ളുന്നതാണ്. പ്രാണികൾക്കുള്ള കെണിയായി പ്രവർത്തിക്കുന്നതിൽ ചിലന്തികളുടെ പ്രവർത്തനമേഖലയെ വല പ്രധിനിധീകരിക്കുന്നു. അത് ഒരു പ്ലാൻ അനുസരിച്ചാണ് നിർമ്മിച്ചിരിക്കുന്നത്. ചിലന്തി സ്രവിക്കുന്ന നൂൽ രണ്ട് ശാഖകൾ, പാറകൾ, എന്തെങ്കിലും തരത്തിലുള്ള സപ്ലോർട്ടുകൾ എന്നിവ കൂട്ടി ചേർക്കുന്നു. തുടർന്ന് അവ കിരണങ്ങൾ നെയ്യുന്നു. ഒരു പ്ലാൻ അനുസരിച്ചാണ് നിർമ്മാണം നടക്കുന്നത്. ഒടുവിൽ ചിലന്തി കേന്ദ്രത്തിന് ചുറ്റും നൂൽ നെയ്യുന്നു. എല്ലായിപ്പോഴും വളരെ ശ്രദ്ധാപൂർവ്വം കണക്കാക്കിയ അകലത്തിൽ ചുറ്റി സഞ്ചരിക്കുന്നു. സപ്ലോർട്ടുകളും പോയിന്റുകളും അടുത്തടുത്താണെങ്കിൽ വല ചെറുതായിരിക്കും. പരസ്പരം അകലം കൂടുംതോറും വല വലുതായിരിക്കും. എന്നാൽ കൃത്യമായി പ്ലാൻ അനുസരിച്ച് എല്ലായ്പ്പോഴും ഒരേ കൃത്യതയോടെ നെയ്തെടുക്കും. വല പോലെ കൂട്ടിയുടെ മനസ്സും കൃത്യമായ പ്ലാൻ അനുസരിച്ചാണ് നിർമ്മിച്ചിരിക്കുന്നത്. അത്യർത്ഥമായ നിർമ്മാണം തന്റെ ഫീൽഡിൽ എന്താണ് സംഭവിക്കുന്നതെന്ന് മനസ്സിലാക്കാൻ അവനെ പ്രാപ്തമാക്കുന്നു. അത് ഇതുവരെ അവന്റെ പരിധിക്കു പുറത്തായിരുന്നു. കൂട്ടി ജീവിക്കുന്നത് ഒരു ലളിതമായ സംസ്കാരികതയിലാണോ അതോ സങ്കീർണ്ണമായ ഒരു നഗരത്തിലാണോ അതോ സങ്കീർണ്ണമായ ഒരു ലോകത്തിലാണോ എന്നതിനെ ആശ്രയിച്ച്. അവന്റെ മാനസിക വല കൂടുതലോ കുറവോ ആയിരിക്കും. കൂടാതെ, കൂടുതലോ കുറവോ ലക്ഷ്യങ്ങൾ കൈവരിക്കാൻ അവനെ പ്രാപ്തമാക്കും.

അതുകൊണ്ടാണ് അക നിർമ്മാണത്തെയും അതിന്റെ പ്രകടനങ്ങളെയും നമ്മൾ ബഹുമാനിക്കേണ്ടത്, അത് ചിലപ്പോൾ നമുക്ക് ഉപയോഗശൂന്യമായി തോന്നാം നിർമ്മാണം ആവശ്യമാണ്. ഈ പ്രവർത്തനത്തിൽ നന്ദി, കൂടി അവന്റെ മാനസിക മണ്ഡലവും തുടർന്ന് അവന്റെ സ്വീകാര്യ ശക്തിയും വികസിപ്പിക്കുന്നു...

പ്രബോധനം നൽകുന്ന സ്ഥലമായി സ്കൂളിനെ പരിഗണിക്കുക എന്നത് ഒരു കാഴ്ചപ്പാടാണ്. എന്നാൽ സ്കൂളിനെ ജീവിതത്തിനുള്ള ഒരുക്കമായി കണക്കാക്കുന്നത് മറ്റൊന്നാണ്. പിന്നീടുള്ള സന്ദർഭത്തിൽ സ്കൂൾ ജീവിതത്തിന്റെ എല്ലാ ആവശ്യങ്ങളും നിറവേറ്റണം. കൂട്ടിയുടെ യഥാർത്ഥ വിദ്യാഭ്യാസത്തെ അടിച്ചമർത്തുന്ന ഒരു വിദ്യാഭ്യാസം അപാകതകളുടെ വികാസത്തിലേക്ക് നയിക്കുന്ന ഒരു വിദ്യാഭ്യാസമാണ്. സ്കൂളിനു പുറത്ത്, കൂട്ടിക്ക് ഒരു സംഘടിത ജീവിതം കൊണ്ട് വന്ന സ്കൂട്ടിംഗ്, അതിനാൽ ഞങ്ങൾക്ക് എല്ലായ്പ്പോഴും അതിനോട് താല്പര്യമുണ്ട്.

ഖണ്ഡികയുടെ അടിസ്ഥാനത്തിൽ, ഒരു കൂട്ടിയുടെ വിദ്യാഭ്യാസത്തിൽ ചിലന്തി വലയുടെ പ്രാധാന്യം എന്താണ്?

1. എല്ലാ മേഖലകളിലും വിദ്യാഭ്യാസം വ്യാപിപ്പിക്കണം.
2. ഫീൽഡ് അടിസ്ഥാനമാക്കിയുള്ള പഠനം വിദ്യാഭ്യാസത്തിന്റെ നിർണ്ണായക വശമാണ്
3. അഡ്മിനിസ്ട്രേറ്റീവ് വെബ് വിദ്യാഭ്യാസത്തിനു തടസ്സം നിൽക്കുന്നു
4. ഒരു കൂട്ടിയുടെ മനസ്സ് ഒരു വെബ് പോലെയാണ്

Options :
 485584146521. 1
 485584146522. 2
 485584146523. 3
 485584146524. 4

Question Number : 247 Question Id : 48558436632 Question Type : MCQ Option Shuffling : No Is Question Mandatory : No Calculator : None Response Time : N.A Think Time : N.A Minimum Instruction Time : 0 Correct Marks : 5 Wrong Marks : 1

Question Key Details :

Key	Value
Comprehension	Comp2

The spider's web occupies a much larger space than does the animal itself. The web represents the spider's field of action in acting as a trap for insects. It is constructed according to a plan. A thread secreted by the spider joins two branches, two rocks, two supports of any kind; then he weaves the rays. The construction proceeds according to a plan. Finally the spider weaves the thread around the center, going around at an always very carefully calculated distance. If the points of support are close together, the web is small. The greater the distance of one from the other, the larger the web will be. But it will always be woven with the same exactness according to a precise plan.

As is the web, so is the mind of the child constructed according to an exact plan. The abstract construction enables him to grasp what happens in his field, which was out of his range heretofore.

Depending on whether the child lives in a simple civilisation or in a complicated world, his web will be more or less large and will enable him to attain more or fewer objectives.

This is why we must respect the interior construction and its manifestations, which may at times seem useless to us. The construction is necessary. It is thanks to this work that the child enlarges his psychic field and subsequently his receptive powers.

To consider the school as the place where instruction is given is one point of view. But to consider the school as a preparation for life is another. In the latter case the school must satisfy all the needs of life.

An education that suppresses the true nature of the child is an education that leads to the development of anomalies.

Scouting, which, outside of school, has brought an organised form of life to children, has therefore always interested us.

Construction of child's mind is:

1. Independent of his context
2. dependent on school's context only
3. dependent on his context
4. dependent on his family's context only

Options :

- 485584146525. 1
- 485584146526. 2
- 485584146527. 3
- 485584146528. 4

Question Number : 247 Question Id : 48558436632 Question Type : MCQ Option Shuffling : No Is Question Mandatory : No Calculator : None Response Time : N.A Think Time : N.A Minimum Instruction Time : 0

Correct Marks : 5 Wrong Marks : 1

Question Key Details :

Key	Value
Comprehension	Comp2

ചിലന്തിവല ചിലന്തിയേക്കാൾ വളരെ വലിയ ഇടമാണ് ഉൾക്കൊള്ളുന്നതാണ്. പ്രാണികൾക്കുള്ള കെണിയായി പ്രവർത്തിക്കുന്നതിൽ ചിലന്തികളുടെ പ്രവർത്തനമേഖലയെ വല പ്രധിനിധീകരിക്കുന്നു. അത് ഒരു പ്ലാൻ അനുസരിച്ചാണ് നിർമ്മിച്ചിരിക്കുന്നത്. ചിലന്തി സ്രവിക്കുന്ന നൂൽ രണ്ട് ശാഖകൾ, പാറകൾ, എന്തെങ്കിലും തരത്തിലുള്ള സപ്ലോർട്ടുകൾ എന്നിവ കൂട്ടി ചേർക്കുന്നു. തുടർന്ന് അവ കിരണങ്ങൾ നെയ്യുന്നു. ഒരു പ്ലാൻ അനുസരിച്ചാണ് നിർമ്മാണം നടക്കുന്നത്. ഒടുവിൽ ചിലന്തി കേന്ദ്രത്തിന് ചുറ്റും നൂൽ നെയ്യുന്നു. എല്ലായിപ്പോഴും വളരെ ശ്രദ്ധാപൂർവ്വം കണക്കാക്കിയ അകലത്തിൽ ചുറ്റി സഞ്ചരിക്കുന്നു. സപ്ലോർട്ടുകളും പോയിന്റുകളും അടുത്തടുത്താണെങ്കിൽ വല ചെറുതായിരിക്കും. പരസ്പരം അകലം കൂടുംതോറും വല വലുതായിരിക്കും. എന്നാൽ കൃത്യമായി പ്ലാൻ അനുസരിച്ച് എല്ലായ്പ്പോഴും ഒരേ കൃത്യതയോടെ നെയ്തെടുക്കും. വല പോലെ കൂട്ടിയുടെ മനസ്സും കൃത്യമായ പ്ലാൻ അനുസരിച്ചാണ് നിർമ്മിച്ചിരിക്കുന്നത്. അത്യർത്ഥമായ നിർമ്മാണം തന്റെ ഫീൽഡിൽ എന്താണ് സംഭവിക്കുന്നതെന്ന് മനസ്സിലാക്കാൻ അവനെ പ്രാപ്തമാക്കുന്നു. അത് ഇതുവരെ അവന്റെ പരിധിക്കു പുറത്തായിരുന്നു. കൂട്ടി ജീവിക്കുന്നത് ഒരു ലളിതമായ സംസ്കാരികതയിലാണോ അതോ സങ്കീർണ്ണമായ ഒരു നഗരത്തിലാണോ അതോ സങ്കീർണ്ണമായ ഒരു ലോകത്തിലാണോ എന്നതിനെ ആശ്രയിച്ച്. അവന്റെ മാനസിക വല കൂടുതലോ കുറവോ ആയിരിക്കും. കൂടാതെ, കൂടുതലോ കുറവോ ലക്ഷ്യങ്ങൾ കൈവരിക്കാൻ അവനെ പ്രാപ്തമാക്കും.

അതുകൊണ്ടാണ് അക നിർമ്മാണത്തെയും അതിന്റെ പ്രകടനങ്ങളെയും നമ്മൾ ബഹുമാനിക്കേണ്ടത്, അത് ചിലപ്പോൾ നമുക്ക് ഉപയോഗശൂന്യമായി തോന്നാം നിർമ്മാണം ആവശ്യമാണ്. ഈ പ്രവർത്തനത്തിൽ നന്ദി, കൂടി അവന്റെ മാനസിക മണ്ഡലവും തുടർന്ന് അവന്റെ സ്വീകാര്യ ശക്തിയും വികസിപ്പിക്കുന്നു...

പ്രബോധനം നൽകുന്ന സ്ഥലമായി സ്കൂളിനെ പരിഗണിക്കുക എന്നത് ഒരു കാഴ്ചപ്പാടാണ്. എന്നാൽ സ്കൂളിനെ ജീവിതത്തിനുള്ള ഒരുക്കമായി കണക്കാക്കുന്നത് മറ്റൊന്നാണ്. പിന്നീടുള്ള സന്ദർഭത്തിൽ സ്കൂൾ ജീവിതത്തിന്റെ എല്ലാ ആവശ്യങ്ങളും നിറവേറ്റണം. കൂട്ടിയുടെ യഥാർത്ഥ വിദ്യാഭ്യാസത്തെ അടിച്ചമർത്തുന്ന ഒരു വിദ്യാഭ്യാസം അപാകതകളുടെ വികാസത്തിലേക്ക് നയിക്കുന്ന ഒരു വിദ്യാഭ്യാസമാണ്. സ്കൂളിനു പുറത്ത്, കൂട്ടിക്ക് ഒരു സംഘടിത ജീവിതം കൊണ്ട് വന്ന സ്കൂട്ടിംഗ്, അതിനാൽ ഞങ്ങൾക്ക് എല്ലായ്പ്പോഴും അതിനോട് താല്പര്യമുണ്ട്.

താഴെ തന്നിരിക്കുന്നത് രണ്ട് പ്രസ്താവനകളാണ്. അതിൽ ഒന്ന് അനുമാനം A എന്നും മറ്റേത് കാരണം R എന്നും പേര് നൽകിയിരിക്കുന്നു.

അനുമാനം A: ലളിതമായ സാംസ്കാരിക ചുറ്റുപാടിൽ ജീവിക്കുന്ന ഒരു കൂട്ടിക്ക് അവന്റെ ചില ലക്ഷ്യങ്ങൾ നേടിയെടുക്കാൻ കൂട്ടിയുടെ മനസ്സ് അവനെ പ്രാപ്തമാക്കും.

കാരണം R: ഒരു കൂട്ടിയുടെ മനസ്സിന്റെ നിർമ്മാണം അവന്റെ ചുറ്റുപാടിൽ നിന്നും സ്വതന്ത്രമാണ്.

മുകളിൽ തന്നിരിക്കുന്ന പ്രസ്താവനകളുടെ വെളിച്ചത്തിൽ താഴെ തന്നിട്ടുള്ളവയിൽ നിന്നും ശരിയുത്തരം തിരഞ്ഞെടുക്കുക.

1. Aയും Rഉം ശരിയാണ്. R എന്നത് Aയുടെ ശരിയായ വിവരണമാണ്
2. Aയും Rഉം ശരിയാണ്. R എന്നത് Aയുടെ ശരിയായ വിവരണമല്ല
3. A ശരിയാണ് R തെറ്റാണ്
4. A തെറ്റാണ് R ശരിയാണ്

Options :

- 485584146525. 1
- 485584146526. 2
- 485584146527. 3
- 485584146528. 4

Question Number : 248 Question Id : 48558436633 Question Type : MCQ Option Shuffling : No Is Question Mandatory : No Calculator : None Response Time : N.A Think Time : N.A Minimum Instruction Time : 0

Correct Marks : 5 Wrong Marks : 1

Question Key Details :

Key	Value
Comprehension	Comp2

The spider's web occupies a much larger space than does the animal itself. The web represents the spider's field of action in acting as a trap for insects. It is constructed according to a plan. A thread secreted by the spider joins two branches, two rocks, two supports of any kind; then he weaves the rays. The construction proceeds according to a plan. Finally the spider weaves the thread around the center, going around at an always very carefully calculated distance. If the points of support are close together, the web is small. The greater the distance of one from the other, the larger the web will be. But it will always be woven with the same exactness according to a precise plan.

As is the web, so is the mind of the child constructed according to an exact plan. The abstract construction enables him to grasp what happens in his field, which was out of his range heretofore.

Depending on whether the child lives in a simple civilisation or in a complicated world, his web will be more or less large and will enable him to attain more or fewer objectives.

This is why we must respect the interior construction and its manifestations, which may at times seem useless to us. The construction is necessary. It is thanks to this work that the child enlarges his psychic field and subsequently his receptive powers.

To consider the school as the place where instruction is given is one point of view. But to consider the school as a preparation for life is another. In the latter case the school must satisfy all the needs of life.

An education that suppresses the true nature of the child is an education that leads to the development of anomalies.

Scouting, which, outside of school, has brought an organised form of life to children, has therefore always interested us.

According to the passage, what should be the aim of education?

1. Nurture the true nature of a child.
2. Overpower the interior construction of a child's mind.
3. Restrict a child's psychic field and promote scientific temperament.
4. Provide instruction and enable the child's participation in the economy.

Options :

- 485584146529. 1
- 485584146530. 2
- 485584146531. 3
- 485584146532. 4

Question Number : 248 Question Id : 48558436633 Question Type : MCQ Option Shuffling : No Is Question Mandatory : No Calculator : None Response Time : N.A Think Time : N.A Minimum Instruction Time : 0

Correct Marks : 5 Wrong Marks : 1

Question Key Details :

Key	Value
Comprehension	Comp2

ചിലന്തിവല ചിലന്തിയേക്കാൾ വളരെ വലിയ ഇടമാണ് ഉൾകൊള്ളുന്നതാണ്. പ്രാണികൾക്കുള്ള കെണിയായി പ്രവർത്തിക്കുന്നതിൽ ചിലന്തികളുടെ പ്രവർത്തനമേഖലയെ വല പ്രധിനിധീകരിക്കുന്നു. അത് ഒരു പ്ലാൻ അനുസരിച്ചാണ് നിർമ്മിച്ചിരിക്കുന്നത്. ചിലന്തി സ്രവിക്കുന്ന നൂൽ രണ്ട് ശാഖകൾ, പാറകൾ, എന്തെങ്കിലും തരത്തിലുള്ള സപ്ലോർട്ടുകൾ എന്നിവ കൂട്ടി ചേർക്കുന്നു. തുടർന്ന് അവ കിരണങ്ങൾ നെയ്യുന്നു. ഒരു പ്ലാൻ അനുസരിച്ചാണ് നിർമ്മാണം നടക്കുന്നത്. ഒടുവിൽ ചിലന്തി കേന്ദ്രത്തിന് ചുറ്റും നൂൽ നെയ്യുന്നു. എല്ലായിപ്പോഴും വളരെ ശ്രദ്ധാപൂർവ്വം കണക്കാക്കിയ അകലത്തിൽ ചുറ്റി സഞ്ചരിക്കുന്നു. സപ്ലോർട്ടുകളും പോയിന്റുകളും അടുത്തടുത്താണെങ്കിൽ വല ചെറുതായിരിക്കും. പരസ്പരം അകലം കൂടുംതോറും വല വലുതായിരിക്കും. എന്നാൽ കൃത്യമായി പ്ലാൻ അനുസരിച്ച് എല്ലായ്പ്പോഴും ഒരേ കൃത്യതയോടെ നെയ്തെടുക്കും. വല പോലെ കൂട്ടിയുടെ മനസ്സും കൃത്യമായ പ്ലാൻ അനുസരിച്ചാണ് നിർമ്മിച്ചിരിക്കുന്നത്. അത്യർത്ഥമായ നിർമ്മാണം തന്റെ ഫീൽഡിൽ എന്താണ് സംഭവിക്കുന്നതെന്ന് മനസ്സിലാക്കാൻ അവനെ പ്രാപ്തമാക്കുന്നു. അത് ഇതുവരെ അവന്റെ പരിധിക്കു പുറത്തായിരുന്നു. കൂട്ടി ജീവിക്കുന്നത് ഒരു ലളിതമായ സംസ്കാരികതയിലാണോ അതോ സങ്കീർണ്ണമായ ഒരു നഗരത്തിലാണോ അതോ സങ്കീർണ്ണമായ ഒരു ലോകത്തിലാണോ എന്നതിനെ ആശ്രയിച്ച്. അവന്റെ മാനസിക വല കൂടുതലോ കുറവോ ആയിരിക്കും. കൂടാതെ, കൂടുതലോ കുറവോ ലക്ഷ്യങ്ങൾ കൈവരിക്കാൻ അവനെ പ്രാപ്തമാക്കും.

അതുകൊണ്ടാണ് അക നിർമ്മാണത്തെയും അതിന്റെ പ്രകടനങ്ങളെയും നമ്മൾ ബഹുമാനിക്കേണ്ടത്, അത് ചിലപ്പോൾ നമുക്ക് ഉപയോഗശൂന്യമായി തോന്നാം നിർമ്മാണം ആവശ്യമാണ്. ഈ പ്രവർത്തനത്തിൽ നന്ദി, കൂടി അവന്റെ മാനസിക മണ്ഡലവും തുടർന്ന് അവന്റെ സ്വീകാര്യ ശക്തിയും വികസിപ്പിക്കുന്നു...

പ്രബോധനം നൽകുന്ന സ്ഥലമായി സ്കൂളിനെ പരിഗണിക്കുക എന്നത് ഒരു കാഴ്ചപ്പാടാണ്. എന്നാൽ സ്കൂളിനെ ജീവിതത്തിനുള്ള ഒരുക്കമായി കണക്കാക്കുന്നത് മറ്റൊന്നാണ്. പിന്നീടുള്ള സന്ദർഭത്തിൽ സ്കൂൾ ജീവിതത്തിന്റെ എല്ലാ ആവശ്യങ്ങളും നിറവേറ്റണം. കൂട്ടിയുടെ യഥാർത്ഥ വിദ്യാഭ്യാസത്തെ അടിച്ചമർത്തുന്ന ഒരു വിദ്യാഭ്യാസം അപാകതകളുടെ വികാസത്തിലേക്ക് നയിക്കുന്ന ഒരു വിദ്യാഭ്യാസമാണ്. സ്കൂളിനു പുറത്ത്, കൂട്ടിക്ക് ഒരു സംഘടിത ജീവിതം കൊണ്ട് വന്ന സ്കൂട്ടിംഗ്, അതിനാൽ ഞങ്ങൾക്ക് എല്ലായ്പ്പോഴും അതിനോട് താല്പര്യമുണ്ട്.

ഖണ്ഡികയുടെ അടിസ്ഥാനത്തിൽ, വിദ്യാഭ്യാസത്തിന്റെ ലക്ഷ്യം എന്ത്?

1. ഒരു കൂട്ടിയുടെ യഥാർത്ഥ സ്വഭാവം പോഷിപ്പിക്കുന്നു.
2. ഒരു കൂട്ടിയുടെ ആന്തരിക ഘടനയിൽ അധികാരം സ്ഥാപിക്കുക.
3. കൂട്ടിയുടെ മാനസിക മേഖലയെ നിയന്ത്രിക്കുകയും ശാസ്ത്രീയ സ്വഭാവം പ്രോത്സാഹിപ്പിക്കുകയും ചെയ്യും.
4. നിർദ്ദേശങ്ങൾ നൽകുകയും സമ്പദ് വ്യവസ്ഥയിൽ കൂട്ടിയുടെ പങ്കാളിത്തം പ്രാപ്തമാക്കുകയും ചെയ്യുക.

Options :

- 485584146529. 1
- 485584146530. 2
- 485584146531. 3
- 485584146532. 4

Question Number : 249 Question Id : 48558436634 Question Type : MCQ Option Shuffling : No Is Question Mandatory : No Calculator : None Response Time : N.A Think Time : N.A Minimum Instruction Time : 0

Correct Marks : 5 Wrong Marks : 1

Question Key Details :

Key	Value
Comprehension	Comp2

The spider's web occupies a much larger space than does the animal itself. The web represents the spider's field of action in acting as a trap for insects. It is constructed according to a plan. A thread secreted by the spider joins two branches, two rocks, two supports of any kind; then he weaves the rays. The construction proceeds according to a plan. Finally the spider weaves the thread around the center, going around at an always very carefully calculated distance. If the points of support are close together, the web is small. The greater the distance of one from the other, the larger the web will be. But it will always be woven with the same exactness according to a precise plan.

As is the web, so is the mind of the child constructed according to an exact plan. The abstract construction enables him to grasp what happens in his field, which was out of his range heretofore.

Depending on whether the child lives in a simple civilisation or in a complicated world, his web will be more or less large and will enable him to attain more or fewer objectives.

This is why we must respect the interior construction and its manifestations, which may at times seem useless to us. The construction is necessary. It is thanks to this work that the child enlarges his psychic field and subsequently his receptive powers.

To consider the school as the place where instruction is given is one point of view. But to consider the school as a preparation for life is another. In the latter case the school must satisfy all the needs of life.

An education that suppresses the true nature of the child is an education that leads to the development of anomalies.

Scouting, which, outside of school, has brought an organised form of life to children, has therefore always interested us.

In the author's view, what does a limited perspective of education do to a child?

1. Enables him to grasp concepts easily.
2. Helps him to attain more objectives.
3. Suppresses his true nature.
4. Encourages his thinking abilities.

Options :

- 485584146533. 1
- 485584146534. 2
- 485584146535. 3
- 485584146536. 4

Question Number : 249 Question Id : 48558436634 Question Type : MCQ Option Shuffling : No Is Question Mandatory : No Calculator : None Response Time : N.A Think Time : N.A Minimum Instruction Time : 0

Correct Marks : 5 Wrong Marks : 1

Question Key Details :

Key	Value
Comprehension	Comp2

ചിലന്തിവല ചിലന്തിയേക്കാൾ വളരെ വലിയ ഇടമാണ് ഉൾകൊള്ളുന്നതാണ്. പ്രാണികൾക്കുള്ള കെണിയായി പ്രവർത്തിക്കുന്നതിൽ ചിലന്തികളുടെ പ്രവർത്തനമേഖലയെ വല പ്രധിനിധീകരിക്കുന്നു. അത് ഒരു പ്ലാൻ അനുസരിച്ചാണ് നിർമ്മിച്ചിരിക്കുന്നത്. ചിലന്തി സ്രവിക്കുന്ന നൂൽ രണ്ട് ശാഖകൾ, പാറകൾ, എന്തെങ്കിലും തരത്തിലുള്ള സപ്ലോർട്ടുകൾ എന്നിവ കൂട്ടി ചേർക്കുന്നു. തുടർന്ന് അവ കിരണങ്ങൾ നെയ്യുന്നു. ഒരു പ്ലാൻ അനുസരിച്ചാണ് നിർമ്മാണം നടക്കുന്നത്. ഒടുവിൽ ചിലന്തി കേന്ദ്രത്തിന് ചുറ്റും നൂൽ നെയ്യുന്നു. എല്ലായിപ്പോഴും വളരെ ശ്രദ്ധാപൂർവ്വം കണക്കാക്കിയ അകലത്തിൽ ചുറ്റി സഞ്ചരിക്കുന്നു. സപ്ലോർട്ടുകളും പോയിന്റുകളും അടുത്തടുത്താണെങ്കിൽ വല ചെറുതായിരിക്കും. പരസ്പരം അകലം കൂടുതലായാ വല വലുതായിരിക്കും. എന്നാൽ കൃത്യമായി പ്ലാൻ അനുസരിച്ച് എല്ലായ്പ്പോഴും ഒരേ കൃത്യതയോടെ നെയ്തെടുക്കും. വല പോലെ കൂട്ടിയുടെ മനസ്സും കൃത്യമായ പ്ലാൻ അനുസരിച്ചാണ് നിർമ്മിച്ചിരിക്കുന്നത്. അത്യർത്ഥമായ നിർമ്മാണം തന്റെ ഫീൽഡിൽ എന്താണ് സംഭവിക്കുന്നതെന്ന് മനസ്സിലാക്കാൻ അവനെ പ്രാപ്തമാക്കുന്നു. അത് ഇതുവരെ അവന്റെ പരിധിക്കു പുറത്തായിരുന്നു. കൂട്ടി ജീവിക്കുന്നത് ഒരു ലളിതമായ സംസ്കാരികതയിലാണോ അതോ സങ്കീർണ്ണമായ ഒരു നഗരത്തിലാണോ അതോ സങ്കീർണ്ണമായ ഒരു ലോകത്തിലാണോ എന്നതിനെ ആശ്രയിച്ച്. അവന്റെ മാനസിക വല കൂടുതലോ കുറവോ ആയിരിക്കും. കൂടാതെ, കൂടുതലോ കുറവോ ലക്ഷ്യങ്ങൾ കൈവരിക്കാൻ അവനെ പ്രാപ്തമാക്കും.

അതുകൊണ്ടാണ് അക നിർമ്മാണത്തെയും അതിന്റെ പ്രകടനങ്ങളെയും നമ്മൾ ബഹുമാനിക്കേണ്ടത്, അത് ചിലപ്പോൾ നമുക്ക് ഉപയോഗശൂന്യമായി തോന്നാം നിർമ്മാണം ആവശ്യമാണ്. ഈ പ്രവർത്തനത്തിൽ നന്ദി, കൂടി അവന്റെ മാനസിക മണ്ഡലവും തുടർന്ന് അവന്റെ സ്വീകാര്യ ശക്തിയും വികസിപ്പിക്കുന്നു...

പ്രബോധനം നൽകുന്ന സ്ഥലമായി സ്കൂളിനെ പരിഗണിക്കുക എന്നത് ഒരു കാഴ്ചപ്പാടാണ്. എന്നാൽ സ്കൂളിനെ ജീവിതത്തിനുള്ള ഒരുക്കമായി കണക്കാക്കുന്നത് മറ്റൊന്നാണ്. പിന്നീടുള്ള സന്ദർഭത്തിൽ സ്കൂൾ ജീവിതത്തിന്റെ എല്ലാ ആവശ്യങ്ങളും നിറവേറ്റണം. കൂട്ടിയുടെ യഥാർത്ഥ വിദ്യാഭ്യാസത്തെ അടിച്ചമർത്തുന്ന ഒരു വിദ്യാഭ്യാസം അപാകതകളുടെ വികാസത്തിലേക്ക് നയിക്കുന്ന ഒരു വിദ്യാഭ്യാസമാണ്. സ്കൂളിനു പുറത്ത്, കൂട്ടിക്ക് ഒരു സംഘടിത ജീവിതം കൊണ്ട് വന്ന സ്കൂട്ടിംഗ്, അതിനാൽ ഞങ്ങൾക്ക് എല്ലായ്പ്പോഴും അതിനോട് താല്പര്യമുണ്ട്.

ഏഴുത്തുകാരന്റെ കാഴ്ചപ്പാടിൽ, വിദ്യാഭ്യാസത്തിന്റെ പരിധിതമായ വീക്ഷണം ഒരു കൂട്ടിക്ക് നൽകുന്നതെന്ത്?

1. ആശയങ്ങൾ പെട്ടെന്ന് മനസ്സിലാക്കാൻ അവനെ പ്രാപ്തമാക്കുന്നു.
2. കൂടുതൽ ലക്ഷ്യങ്ങൾ നേടിയെടുക്കാൻ അവനെ സഹായിക്കുന്നു.
3. അവന്റെ ശരിയായ പ്രകൃതിയെ അടിച്ചമർത്തുന്നു
4. അവന്റെ ചിന്താക്കഴിവുകൾ പ്രോത്സാഹിപ്പിക്കുന്നു

Options :
 485584146533. 1
 485584146534. 2
 485584146535. 3
 485584146536. 4

Question Number : 250 Question Id : 48558436635 Question Type : MCQ Option Shuffling : No Is Question Mandatory : No Calculator : None Response Time : N.A Think Time : N.A Minimum Instruction Time : 0

Correct Marks : 5 Wrong Marks : 1

Question Key Details :

Key	Value
Comprehension	Comp2

The spider's web occupies a much larger space than does the animal itself. The web represents the spider's field of action in acting as a trap for insects. It is constructed according to a plan. A thread secreted by the spider joins two branches, two rocks, two supports of any kind; then he weaves the rays. The construction proceeds according to a plan. Finally the spider weaves the thread around the center, going around at an always very carefully calculated distance. If the points of support are close together, the web is small. The greater the distance of one from the other, the larger the web will be. But it will always be woven with the same exactness according to a precise plan.

As is the web, so is the mind of the child constructed according to an exact plan. The abstract construction enables him to grasp what happens in his field, which was out of his range heretofore.

Depending on whether the child lives in a simple civilisation or in a complicated world, his web will be more or less large and will enable him to attain more or fewer objectives.

This is why we must respect the interior construction and its manifestations, which may at times seem useless to us. The construction is necessary. It is thanks to this work that the child enlarges his psychic field and subsequently his receptive powers.

To consider the school as the place where instruction is given is one point of view. But to consider the school as a preparation for life is another. In the latter case the school must satisfy all the needs of life.

An education that suppresses the true nature of the child is an education that leads to the development of anomalies.

Scouting, which, outside of school, has brought an organised form of life to children, has therefore always interested us.

Which of the following are characteristics of the construction of a child's mind ?

- A. Moving outside the school restricts a child's mind.
- B. A child's mind is constructed according to a precise plan.
- C. Organisation of a child's mind may affect its receptive abilities.
- D. Inhibiting a child's true nature can lead to the development of abnormality.
- E. Concrete construction enables it to access different kinds of knowledge.

Choose the correct answer from the options given below:

- 1. A, C and D only
- 2. A, B and C only
- 3. B, C and D only
- 4. B, C, D and E only

Options :

- 485584146537. 1
- 485584146538. 2
- 485584146539. 3
- 485584146540. 4

Question Number : 250 Question Id : 48558436635 Question Type : MCQ Option Shuffling : No Is Question Mandatory : No Calculator : None Response Time : N.A Think Time : N.A Minimum Instruction Time : 0

Correct Marks : 5 Wrong Marks : 1

Question Key Details :

Key	Value
Comprehension	Comp2

ചിലന്തിവല ചിലന്തിയേക്കാൾ വളരെ വലിയ ഇടമാണ് ഉൾകൊള്ളുന്നതാണ്. പ്രാണികൾക്കുള്ള കെണിയായി പ്രവർത്തിക്കുന്നതിൽ ചിലന്തികളുടെ പ്രവർത്തനമേഖലയെ വല പ്രധിനിധീകരിക്കുന്നു. അത് ഒരു പ്ലാൻ അനുസരിച്ചാണ് നിർമ്മിച്ചിരിക്കുന്നത്. ചിലന്തി സ്രവിക്കുന്ന നൂൽ രണ്ട് ശാഖകൾ, പാറകൾ, എന്തെങ്കിലും തരത്തിലുള്ള സപ്ലോർട്ടുകൾ എന്നിവ കൂട്ടി ചേർക്കുന്നു. തുടർന്ന് അവ കിരണങ്ങൾ നെയ്യുന്നു. ഒരു പ്ലാൻ അനുസരിച്ചാണ് നിർമ്മാണം നടക്കുന്നത്. ഒടുവിൽ ചിലന്തി കേന്ദ്രത്തിന് ചുറ്റും നൂൽ നെയ്യുന്നു. എല്ലായിപ്പോഴും വളരെ ശ്രദ്ധാപൂർവ്വം കണക്കാക്കിയ അകലത്തിൽ ചുറ്റി സഞ്ചരിക്കുന്നു. സപ്ലോർട്ടുകളും പോയിന്റുകളും അടുത്തടുത്താണെങ്കിൽ വല ചെറുതായിരിക്കും. പരസ്പരം അകലം കൂടുംതോറും വല വലുതായിരിക്കും. എന്നാൽ കൃത്യമായി പ്ലാൻ അനുസരിച്ച് എല്ലായ്പ്പോഴും ഒരേ കൃത്യതയോടെ നെയ്തെടുക്കും. വല പോലെ കൂട്ടിയുടെ മനസ്സും കൃത്യമായ പ്ലാൻ അനുസരിച്ചാണ് നിർമ്മിച്ചിരിക്കുന്നത്. അത്യർത്ഥമായ നിർമ്മാണം തന്റെ ഫീൽഡിൽ എന്താണ് സംഭവിക്കുന്നതെന്ന് മനസ്സിലാക്കാൻ അവനെ പ്രാപ്തമാക്കുന്നു. അത് ഇതുവരെ അവന്റെ പരിധിക്കു പുറത്തായിരുന്നു. കൂട്ടി ജീവിക്കുന്നത് ഒരു ലളിതമായ സംസ്കാരികതയിലാണോ അതോ സങ്കീർണ്ണമായ ഒരു നഗരത്തിലാണോ അതോ സങ്കീർണ്ണമായ ഒരു ലോകത്തിലാണോ എന്നതിനെ ആശ്രയിച്ച്. അവന്റെ മാനസിക വല കൂടുതലോ കുറവോ ആയിരിക്കും. കൂടാതെ, കൂടുതലോ കുറവോ ലക്ഷ്യങ്ങൾ കൈവരിക്കാൻ അവനെ പ്രാപ്തമാക്കും.

അതുകൊണ്ടാണ് അക നിർമ്മാണത്തെയും അതിന്റെ പ്രകടനങ്ങളെയും നമ്മൾ ബഹുമാനിക്കേണ്ടത്, അത് ചിലപ്പോൾ നമുക്ക് ഉപയോഗശൂന്യമായി തോന്നാം നിർമ്മാണം ആവശ്യമാണ്. ഈ പ്രവർത്തനത്തിൽ നന്ദി, കൂട്ടി അവന്റെ മാനസിക മണ്ഡലവും തുടർന്ന് അവന്റെ സ്വീകാര്യ ശക്തിയും വികസിപ്പിക്കുന്നു...

പ്രബോധനം നൽകുന്ന സ്ഥലമായി സ്കൂളിനെ പരിഗണിക്കുക എന്നത് ഒരു കാഴ്ചപ്പാടാണ്. എന്നാൽ സ്കൂളിനെ ജീവിതത്തിനുള്ള ഒരുക്കമായി കണക്കാക്കുന്നത് മറ്റൊന്നാണ്. പിന്നീടുള്ള സന്ദർഭത്തിൽ സ്കൂൾ ജീവിതത്തിന്റെ എല്ലാ ആവശ്യങ്ങളും നിറവേറ്റണം. കൂട്ടിയുടെ യഥാർത്ഥ വിദ്യാഭ്യാസത്തെ അടിച്ചമർത്തുന്ന ഒരു വിദ്യാഭ്യാസം അപാകതകളുടെ വികാസത്തിലേക്ക് നയിക്കുന്ന ഒരു വിദ്യാഭ്യാസമാണ്. സ്കൂളിനു പുറത്ത്, കൂട്ടിക്ക് ഒരു സംഘടിത ജീവിതം കൊണ്ട് വന്ന സ്കൂളിംഗ്, അതിനാൽ തങ്ങൾക്ക് എല്ലായ്പ്പോഴും അതിനോട് താല്പര്യമുണ്ട്.

കൂട്ടിയുടെ മനസ്സിന്റെ നിർമ്മാണവുമായി ബന്ധപ്പെട്ട സവിശേഷതകൾ താഴെ തന്നിട്ടുള്ളവയിൽ ഏതാണ് ?

- A. സ്കൂളിനു പുറത്തേക്കു പോകുന്നത് കൂട്ടിയുടെ മനസ്സിനെ പരിമിതപ്പെടുത്തുന്നു.
- B. ഒരു കൂട്ടിയുടെ മനസ്സ് നിർമ്മിക്കപ്പെട്ടിരിക്കുന്നത് കൃത്യമായ ആസൂത്രണത്തിന്റെ അടിസ്ഥാനത്തിലാണ്.
- C. കൂട്ടിയുടെ മനസ്സിന്റെ രൂപീകരണം അവന്റെ സ്വീകരിക്കാനുള്ള കഴിവുകളെ ബാധിക്കാം.
- D. ഒരു കൂട്ടിയുടെ ശരിയായ സ്വഭാവത്തെ തടയുന്നത് അവൻ വൈകല്യം ഉണ്ടാക്കുന്നതിലേക്ക് നയിക്കാം.
- E. ഭൗതികമായ നിർമ്മാണം, വ്യത്യസ്ത തരത്തിലുള്ള അറിവ് നേടുന്നത് സഹായകമാകാം.

താഴെ തന്നിരിക്കുന്നവയിൽ നിന്ന് ശരിയായ ഉത്തരം തിരഞ്ഞെടുക്കുക

- 1. A, C, D മാത്രം
- 2. A, B, C മാത്രം
- 3. B, C, D മാത്രം
- 4. B, C, D, E മാത്രം

Options :

- 485584146537. 1
- 485584146538. 2
- 485584146539. 3
- 485584146540. 4