

# National Testing Agency

**Question Paper Name :** 22S3  
**Subject Name :** 22Jun2023 Shift3 Subject Combination 1  
**Creation Date :** 2023-06-22 20:03:07  
**Duration :** 270  
**Total Marks :** 1200  
**Display Marks:** Yes

## Tibetan

**Group Number :** 1  
**Group Id :** 485584821  
**Group Maximum Duration :** 45  
**Group Minimum Duration :** 45  
**Show Attended Group? :** No  
**Edit Attended Group? :** No  
**Break time :** 0  
**Group Marks :** 200  
**Is this Group for Examiner? :** No  
**Examiner permission :** Cant View  
**Show Progress Bar? :** No

## Tibetan

**Section Id :** 485584945  
**Section Number :** 1  
**Section type :** Online  
**Mandatory or Optional :** Mandatory  
**Number of Questions :** 50  
**Number of Questions to be attempted :** 40  
**Section Marks :** 200  
**Enable Mark as Answered Mark for Review and Clear Response :** Yes  
**Maximum Instruction Time :** 0  
**Sub-Section Number :** 1  
**Sub-Section Id :** 4855842686  
**Question Shuffling Allowed :** No  
**Is Section Default? :** null  
**Sub-Section Number :** 2  
**Sub-Section Id :** 4855842687  
**Question Shuffling Allowed :** No  
**Is Section Default? :** null  
**Sub-Section Number :** 3  
**Sub-Section Id :** 4855842688  
**Question Shuffling Allowed :** No  
**Is Section Default? :** null  
**Sub-Section Number :** 4  
**Sub-Section Id :** 4855842689  
**Question Shuffling Allowed :** Yes  
**Is Section Default? :** null

## Biology

**Group Number :** 2  
**Group Id :** 485584822  
**Group Maximum Duration :** 45  
**Group Minimum Duration :** 45

Show Attended Group? : No  
Edit Attended Group? : No  
Break time : 0  
Group Marks : 200  
Is this Group for Examiner? : No  
Examiner permission : Cant View  
Show Progress Bar? : No

## Biology

Section Id : 485584946  
Section Number : 1  
Section type : Online  
Mandatory or Optional : Mandatory  
Number of Questions : 50  
Number of Questions to be attempted : 40  
Section Marks : 200  
Enable Mark as Answered Mark for Review and Clear Response : Yes  
Maximum Instruction Time : 0  
Sub-Section Number : 1  
Sub-Section Id : 4855842690  
Question Shuffling Allowed : Yes  
Is Section Default? : null

Question Number : 1 Question Id : 48558436386 Question Type : MCQ Option Shuffling : No Is Question Mandatory : No Calculator : None  
Response Time : N.A Think Time : N.A Minimum Instruction Time : 0

Correct Marks : 5 Wrong Marks : 1

Question Key Details :

| Key           | Value |
|---------------|-------|
| Comprehension | MCQ   |

Number of chromosomes found in rice gamete is:

1. 8
2. 10
3. 12
4. 14

Options :

485584145541. 1  
485584145542. 2  
485584145543. 3  
485584145544. 4

Question Number : 1 Question Id : 48558436386 Question Type : MCQ Option Shuffling : No Is Question Mandatory : No Calculator : None  
Response Time : N.A Think Time : N.A Minimum Instruction Time : 0

Correct Marks : 5 Wrong Marks : 1

Question Key Details :

| Key           | Value |
|---------------|-------|
| Comprehension | MCQ   |

तांदळाच्या पुष्पकात किती गुणसूत्र असतात?:

1. 8
2. 10
3. 12
4. 14

**Options :**

485584145541. 1
485584145542. 2
485584145543. 3
485584145544. 4

**Question Number : 2 Question Id : 48558436387 Question Type : MCQ Option Shuffling : No Is Question Mandatory : No Calculator : None Response Time : N.A Think Time : N.A Minimum Instruction Time : 0**

**Correct Marks : 5 Wrong Marks : 1**

**Question Key Details :**

| Key           | Value |
|---------------|-------|
| Comprehension | MCQ   |

Match List I with List II

| LIST I<br>(Vegetative propagules) |           | LIST II<br>(Example) |                |
|-----------------------------------|-----------|----------------------|----------------|
| A.                                | Leaf buds | I.                   | Water hyacinth |
| B.                                | Rhizome   | II.                  | Agave          |
| C.                                | Offset    | III.                 | Ginger         |
| D.                                | Bulbil    | IV.                  | Bryophyllum    |

Choose the correct answer from the options given below:

1. A-III, B-IV, C-II, D-I
2. A-II, B-IV, C-I, D-III
3. A-IV, B-III, C-I, D-II
4. A-III, B-II, C-IV, D-I

**Options :**

485584145545. 1
485584145546. 2
485584145547. 3
485584145548. 4

**Question Number : 2 Question Id : 48558436387 Question Type : MCQ Option Shuffling : No Is Question Mandatory : No Calculator : None Response Time : N.A Think Time : N.A Minimum Instruction Time : 0**

**Correct Marks : 5 Wrong Marks : 1**

**Question Key Details :**

| Key           | Value |
|---------------|-------|
| Comprehension | MCQ   |

यादी I ची यादी II शी जोडी लावा

| यादी I         |      | यादी II               |  |
|----------------|------|-----------------------|--|
| A. मार्ग मुखले | I.   | जलापणी                |  |
| B. प्रकंद      | II.  | अंगव (घाणपात)         |  |
| C. जलस्तरिका   | III. | आले                   |  |
| D. मार्गस्तंभ  | IV.  | ब्रायोफायलम (पानफुटी) |  |

पुढील पर्यायातून योग्य उत्तर शोधा

1. A-III, B-IV, C-II, D-I
2. A-II, B-IV, C-I, D-III
3. A-IV, B-III, C-I, D-II
4. A-III, B-II, C-IV, D-I

**Options :**

485584145545. 1  
485584145546. 2  
485584145547. 3  
485584145548. 4

**Question Number : 3 Question Id : 48558436388 Question Type : MCQ Option Shuffling : No Is Question Mandatory : No Calculator : None Response Time : N.A Think Time : N.A Minimum Instruction Time : 0**

**Correct Marks : 5 Wrong Marks : 1**

**Question Key Details :**

| Key           | Value |
|---------------|-------|
| Comprehension | MCQ   |

Residual and persistent nucellus present in some seeds is called:

1. Seed coat
2. Pericarp
3. Perisperm
4. Achene

**Options :**

485584145549. 1  
485584145550. 2  
485584145551. 3  
485584145552. 4

**Question Number : 3 Question Id : 48558436388 Question Type : MCQ Option Shuffling : No Is Question Mandatory : No Calculator : None Response Time : N.A Think Time : N.A Minimum Instruction Time : 0**

**Correct Marks : 5 Wrong Marks : 1**

**Question Key Details :**

| Key           | Value |
|---------------|-------|
| Comprehension | MCQ   |

काही बीजातील अवशिष्ट चिरस्थायी बीजाडकायेला \_\_\_\_\_ म्हणतात.

1. बीजावरण
2. फलभित्ति
3. परिभूणपोष
4. चर्मिलिक

**Options :**

485584145549. 1  
485584145550. 2  
485584145551. 3  
485584145552. 4

**Question Number : 4 Question Id : 48558436389 Question Type : MCQ Option Shuffling : No Is Question Mandatory : No Calculator : None Response Time : N.A Think Time : N.A Minimum Instruction Time : 0**

**Correct Marks : 5 Wrong Marks : 1**

**Question Key Details :**

| Key           | Value |
|---------------|-------|
| Comprehension | MCQ   |

The wall layer which provides nourishment to the developing pollen grains is called:

1. Epidermis
2. Endothecium
3. Middle Layer
4. Tapetum

**Options :**

485584145553. 1  
485584145554. 2  
485584145555. 3  
485584145556. 4

**Question Number : 4 Question Id : 48558436389 Question Type : MCQ Option Shuffling : No Is Question Mandatory : No Calculator : None Response Time : N.A Think Time : N.A Minimum Instruction Time : 0**

**Correct Marks : 5 Wrong Marks : 1**

**Question Key Details :**

| Key           | Value |
|---------------|-------|
| Comprehension | MCQ   |

पराम कोशाची हा स्तर तयार होत असलेल्या पराम कणांचे पोषण करण्याचे कार्य करतो?

1. बाह्यत्वचा
2. अंतः त्वचा
3. मध्यस्तर
4. पोषतिस्तर

**Options :**

485584145553. 1  
485584145554. 2  
485584145555. 3

485584145556. 4

Question Number : 5 Question Id : 48558436390 Question Type : MCQ Option Shuffling : No Is Question Mandatory : No Calculator : None  
Response Time : N.A Think Time : N.A Minimum Instruction Time : 0  
Correct Marks : 5 Wrong Marks : 1

Question Key Details :

| Key           | Value |
|---------------|-------|
| Comprehension | MCQ   |

Spermiation is the \_\_\_\_\_.

1. Process of release of sperms from the seminiferous tubules
2. Process of formation of sperms
3. Transformation of spermatida into sperms
4. Process of formation of spermatogonia

Options :

485584145557. 1  
485584145558. 2  
485584145559. 3  
485584145560. 4

Question Number : 5 Question Id : 48558436390 Question Type : MCQ Option Shuffling : No Is Question Mandatory : No Calculator : None  
Response Time : N.A Think Time : N.A Minimum Instruction Time : 0  
Correct Marks : 5 Wrong Marks : 1

Question Key Details :

| Key           | Value |
|---------------|-------|
| Comprehension | MCQ   |

स्परमिडेशन मधे

1. सूक्ष्म नलिकेतून (शुक्रजनक सूक्ष्मनलिकेतून) पुमाणु सोडण्याची क्रिया
2. पुमाणु तयार होण्याची क्रिया
3. प्रशुक्रपेशींचे शुक्र पेशींत रूपांतरण होणे
4. पुमाणुधानी तयार होण्याची क्रिया

Options :

485584145557. 1  
485584145558. 2  
485584145559. 3  
485584145560. 4

Question Number : 6 Question Id : 48558436391 Question Type : MCQ Option Shuffling : No Is Question Mandatory : No Calculator : None  
Response Time : N.A Think Time : N.A Minimum Instruction Time : 0  
Correct Marks : 5 Wrong Marks : 1

Question Key Details :

| Key           | Value |
|---------------|-------|
| Comprehension | MCQ   |

Which of the following hormones are secreted by placenta?

- A. hCG
- B. hPL
- C. Estrogens
- D. Progestogens
- E. Relaxin

Choose the correct answer from the options given below:

- 1. A, B, and E only
- 2. A, B, C and E only
- 3. A, B, D and E only
- 4. A, B, C and D only

**Options :**

- 485584145561. 1
- 485584145562. 2
- 485584145563. 3
- 485584145564. 4

**Question Number : 6 Question Id : 48558436391 Question Type : MCQ Option Shuffling : No Is Question Mandatory : No Calculator : None Response Time : N.A Think Time : N.A Minimum Instruction Time : 0**

**Correct Marks : 5 Wrong Marks : 1**

**Question Key Details :**

| Key           | Value |
|---------------|-------|
| Comprehension | MCQ   |

खालील पैकी कोणते ती संप्रेरके अपसा (प्लॅसेंटा) तून स्त्रावित होतात?

- A. hCG
- B. hPL
- C. एस्ट्रोजनस्
- D. प्रोजेस्टोजेनस्
- E. रिलॅक्सिन

खालील पर्यायातून योग्य उत्तर शोधा:

- 1. केवळ A, B आणि E
- 2. केवळ A, B आणि E
- 3. केवळ A, B, D आणि E
- 4. केवळ A, B, C आणि D

**Options :**

- 485584145561. 1
- 485584145562. 2
- 485584145563. 3
- 485584145564. 4

**Question Number : 7 Question Id : 48558436392 Question Type : MCQ Option Shuffling : No Is Question Mandatory : No Calculator : None Response Time : N.A Think Time : N.A Minimum Instruction Time : 0**

**Correct Marks : 5 Wrong Marks : 1**

**Question Key Details :**

| Key           | Value |
|---------------|-------|
| Comprehension | MCQ   |

Which of the following disease is completely curable if detected early?

1. Genital herpes
2. HIV infections
3. Hepatitis-B
4. Trichomoniasis

**Options :**

485584145565. 1  
485584145566. 2  
485584145567. 3  
485584145568. 4

**Question Number : 7 Question Id : 48558436392 Question Type : MCQ Option Shuffling : No Is Question Mandatory : No Calculator : None Response Time : N.A Think Time : N.A Minimum Instruction Time : 0**

**Correct Marks : 5 Wrong Marks : 1**

**Question Key Details :**

| Key           | Value |
|---------------|-------|
| Comprehension | MCQ   |

लवकर नलदलन झलले तर खललील पैकी कोणतल रोग पूरुणपणे बरल होऊ शकतो?

1. जेनलयटल हर्पलस
2. HIV संकुरलमण
3. हेपटलयटीस-B
4. टुरलको मॉनललयलसलस

**Options :**

485584145565. 1  
485584145566. 2  
485584145567. 3  
485584145568. 4

**Question Number : 8 Question Id : 48558436393 Question Type : MCQ Option Shuffling : No Is Question Mandatory : No Calculator : None Response Time : N.A Think Time : N.A Minimum Instruction Time : 0**

**Correct Marks : 5 Wrong Marks : 1**

**Question Key Details :**

| Key           | Value |
|---------------|-------|
| Comprehension | MCQ   |



Identify the terminal methods to prevent pregnancy.

- A. Tubectomy
- B. Vasectomy
- C. IUDs
- D. Cervical caps

Choose the correct answer from the options given below:

1. A and D only
2. A and C only
3. B and D only
4. A and B only

**Options :**

- 485584145569. 1
- 485584145570. 2
- 485584145571. 3
- 485584145572. 4

**Question Number : 8 Question Id : 48558436393 Question Type : MCQ Option Shuffling : No Is Question Mandatory : No Calculator : None Response Time : N.A Think Time : N.A Minimum Instruction Time : 0**

**Correct Marks : 5 Wrong Marks : 1**

**Question Key Details :**

| Key           | Value |
|---------------|-------|
| Comprehension | MCQ   |

गर्भधारण रोकण्यासाठी खालील पैकी कोणत्या शेतटच्या पद्धती आहेत?

- A. ट्यूबेक्टोमी (महिला नसबंदी)
- B. व्हॅसेक्टोमी (पुरुष नसबंदी)
- C. गर्भाशयातील गर्भनिरोधक साधने (IUDs)
- D. ग्रीवा टोपी

खालील पर्यायातून योग्य उत्तर शोधा:

1. केवळ A आणि D
2. केवळ A आणि C
3. केवळ B आणि D
4. केवळ A आणि B

**Options :**

- 485584145569. 1
- 485584145570. 2
- 485584145571. 3
- 485584145572. 4

**Question Number : 9 Question Id : 48558436394 Question Type : MCQ Option Shuffling : No Is Question Mandatory : No Calculator : None Response Time : N.A Think Time : N.A Minimum Instruction Time : 0**

**Correct Marks : 5 Wrong Marks : 1**

**Question Key Details :**

| Key           | Value |
|---------------|-------|
| Comprehension | MCQ   |

The person with karyotype 44+XXY is suffering from:

1. Down's Syndrome
2. Klinefelter's Syndrome
3. Turner's Syndrome
4. Edward's Syndrome

**Options :**

485584145573. 1  
485584145574. 2  
485584145575. 3  
485584145576. 4

**Question Number : 9 Question Id : 48558436394 Question Type : MCQ Option Shuffling : No Is Question Mandatory : No Calculator : None Response Time : N.A Think Time : N.A Minimum Instruction Time : 0**

**Correct Marks : 5 Wrong Marks : 1**

**Question Key Details :**

| Key           | Value |
|---------------|-------|
| Comprehension | MCQ   |

44+XXY केंद्रकप्ररुप असलेली व्यक्ती या विकृतीने ग्रसीत असतात

1. डाउनस संलक्षण
2. क्लाइनफेल्टरसं संलक्षण
- 3.
- टर्नरस संलक्षण
4. एडव्हर्डस संलक्षण

**Options :**

485584145573. 1  
485584145574. 2  
485584145575. 3  
485584145576. 4

**Question Number : 10 Question Id : 48558436395 Question Type : MCQ Option Shuffling : No Is Question Mandatory : No Calculator : None Response Time : N.A Think Time : N.A Minimum Instruction Time : 0**

**Correct Marks : 5 Wrong Marks : 1**

**Question Key Details :**

| Key           | Value |
|---------------|-------|
| Comprehension | MCQ   |

Select the mendelian disorders from the following:

- A. Thalassemia
- B. Turner's Syndrome
- C. Cystic Fibrosis
- D. Sickle cell anaemia

Choose the *correct answer* from the options given below:

1. B and D only
2. A, C and D only
3. B, C and D only
4. A and D only

**Options :**

- 485584145577. 1
- 485584145578. 2
- 485584145579. 3
- 485584145580. 4

**Question Number : 10 Question Id : 48558436395 Question Type : MCQ Option Shuffling : No Is Question Mandatory : No Calculator : None Response Time : N.A Think Time : N.A Minimum Instruction Time : 0**

**Correct Marks : 5 Wrong Marks : 1**

**Question Key Details :**

| Key           | Value |
|---------------|-------|
| Comprehension | MCQ   |

खालील पैकी मॅडेलियन विकृती ओळखा

- A. थॅलेसेमिया
- B. टर्नर चे संलक्षण
- C. सिस्टिक फायब्रोसिस
- D. सिकल सेल एनेमिया (दात्र पेशी पांडुरोग)

खालील पर्यायातून योग्य उत्तर शोधा

1. केवळ B, D
2. केवळ A, C, D
3. केवळ B, C, D
4. केवळ A, D

**Options :**

- 485584145577. 1
- 485584145578. 2
- 485584145579. 3
- 485584145580. 4

**Question Number : 11 Question Id : 48558436396 Question Type : MCQ Option Shuffling : No Is Question Mandatory : No Calculator : None Response Time : N.A Think Time : N.A Minimum Instruction Time : 0**

**Correct Marks : 5 Wrong Marks : 1**

**Question Key Details :**

| Key           | Value |
|---------------|-------|
| Comprehension | MCQ   |

Match List I with List II

| LIST I |  | LIST II |                       |
|--------|--|---------|-----------------------|
| A.     | Phenotype reflects the contribution of each allele                                 | I.      | Pleiotropy            |
| B.     | Multiple phenotypic expressions by a single gene                                   | II.     | Linkage               |
| C.     | Generation of non-parental gene combinations                                       | III.    | Polygenic inheritance |
| D.     | Parental gene combinations higher than non-parental type in F <sub>2</sub> progeny | IV.     | Recombination         |

Choose the correct answer from the options given below:

1. A-III, B-I, C-IV, D-II
2. A-I, B-IV, C-II, D-III
3. A-III, B-IV, C-I, D-II
4. A-I, B-III, C-II, D-IV

Options :

485584145581. 1  
 485584145582. 2  
 485584145583. 3  
 485584145584. 4

Question Number : 11 Question Id : 48558436396 Question Type : MCQ Option Shuffling : No Is Question Mandatory : No Calculator : None Response Time : N.A Think Time : N.A Minimum Instruction Time : 0

Correct Marks : 5 Wrong Marks : 1

Question Key Details :

| Key           | Value |
|---------------|-------|
| Comprehension | MCQ   |

यादी I ची यादी II शी जोडी लावा

| यादी I |   | यादी II |                |
|--------|---|---------|----------------|
| A.     | प्रत्येक पुष्पविल्पाचे योगदान या स्वरूपविधेत अद्वयते.   | I.      | बहुप्रभावी     |
| B.     | एकाच जनुकाचे अनेक स्वरूपविधा मध्ये प्रगट होणे.  | II.     | संलग्ना        |
| C.     | जनक पिढीत न अद्वयते जनुक जोडीचे मिश्रण आदळते.   | III.    | बहुजनुक अनुवंश |
| D.     | जनक पिढीतील संयुक्त लक्षणं F <sub>2</sub> संतनीय पिढीत, जनक पिढीत नसलेली लक्षणां पेक्षा अद्वयतात. | IV.     | पुनःसंयोजन     |

खालील पर्यायातून योग्य उत्तर शोधा:

1. A-III, B-I, C-IV, D-II
2. A-I, B-IV, C-II, D-III
3. A-III, B-IV, C-I, D-II
4. A-I, B-III, C-II, D-IV

Options :

485584145581. 1  
 485584145582. 2  
 485584145583. 3

485584145584. 4

Question Number : 12 Question Id : 48558436397 Question Type : MCQ Option Shuffling : No Is Question Mandatory : No Calculator : None  
Response Time : N.A Think Time : N.A Minimum Instruction Time : 0  
Correct Marks : 5 Wrong Marks : 1

Question Key Details :

| Key           | Value |
|---------------|-------|
| Comprehension | MCQ   |

Point mutations means:

1. Change in one base pair
2. Change in one allele
3. Change of base pair at a location without any significance
4. Addition or deletion of codons in multiple of three at a point

Options :

485584145585. 1  
485584145586. 2  
485584145587. 3  
485584145588. 4

Question Number : 12 Question Id : 48558436397 Question Type : MCQ Option Shuffling : No Is Question Mandatory : No Calculator : None  
Response Time : N.A Think Time : N.A Minimum Instruction Time : 0  
Correct Marks : 5 Wrong Marks : 1

Question Key Details :

| Key           | Value |
|---------------|-------|
| Comprehension | MCQ   |

बिंदू उत्परिवर्तन म्हणजे

1. एका आम्लारि युग्मकांत बदल
2. एका युग्मविकल्पात बदल
3. कोणताही महामहत्व नसलेल्या जागेवरिल आम्लारि युग्मकांत बदल
4. तीन च्या पटीने एका विशिष्ट बिंदूवर संकेत घालणे किंवा वजा होणे

Options :

485584145585. 1  
485584145586. 2  
485584145587. 3  
485584145588. 4

Question Number : 13 Question Id : 48558436398 Question Type : MCQ Option Shuffling : No Is Question Mandatory : No Calculator : None  
Response Time : N.A Think Time : N.A Minimum Instruction Time : 0  
Correct Marks : 5 Wrong Marks : 1

Question Key Details :

| Key           | Value |
|---------------|-------|
| Comprehension | MCQ   |

Which of the following is a stop codon?

1. UAC
2. UAG
3. UAU
4. AUG

**Options :**

485584145589. 1  
485584145590. 2  
485584145591. 3  
485584145592. 4

**Question Number : 13 Question Id : 48558436398 Question Type : MCQ Option Shuffling : No Is Question Mandatory : No Calculator : None Response Time : N.A Think Time : N.A Minimum Instruction Time : 0**

**Correct Marks : 5 Wrong Marks : 1**

**Question Key Details :**

| Key           | Value |
|---------------|-------|
| Comprehension | MCQ   |

खालील पैकी कोणता शेवट संकेत आहे?

1. UAC
2. UAG
3. UAU
4. AUG

**Options :**

485584145589. 1  
485584145590. 2  
485584145591. 3  
485584145592. 4

**Question Number : 14 Question Id : 48558436399 Question Type : MCQ Option Shuffling : No Is Question Mandatory : No Calculator : None Response Time : N.A Think Time : N.A Minimum Instruction Time : 0**

**Correct Marks : 5 Wrong Marks : 1**

**Question Key Details :**

| Key           | Value |
|---------------|-------|
| Comprehension | MCQ   |

Match List I with List II

| LIST I<br>(Codes) |     | LIST II<br>(Codes for) |                  |
|-------------------|-----|------------------------|------------------|
| A.                | UUU | I.                     | Phenylalanine    |
| B.                | AUG | II.                    | Initiator codon  |
| C.                | UAA | III.                   | Terminator codon |
| D.                | GUU | IV.                    | Valine           |

Choose the correct answer from the options given below:

1. A-I, B-II, C-III, D-IV
2. A-II, B-I, C-III, D-IV
3. A-I, B-II, C-IV, D-III
4. A-III, B-IV, C-I, D-II

Options :

485584145593. 1  
485584145594. 2  
485584145595. 3  
485584145596. 4

Question Number : 14 Question Id : 48558436399 Question Type : MCQ Option Shuffling : No Is Question Mandatory : No Calculator : None Response Time : N.A Think Time : N.A Minimum Instruction Time : 0

Correct Marks : 5 Wrong Marks : 1

Question Key Details :

| Key           | Value |
|---------------|-------|
| Comprehension | MCQ   |

यादी I ची यादी II शी जोडी लावा

| यादी I<br>(कोड) (संकेत) |     | यादी II<br>(कशाचा संकेत) |                      |
|-------------------------|-----|--------------------------|----------------------|
| A.                      | UUU | I.                       | फेनाइल-अलॅनिन        |
| B.                      | AUG | II.                      | सुरुवात करणारा संकेत |
| C.                      | UAA | III.                     | शेवट करणारा संकेत    |
| D.                      | GUU | IV.                      | वॅलीन                |

खालील पर्यायातून योग्य उत्तर शोधा:

1. A-I, B-II, C-III, D-IV
2. A-II, B-I, C-III, D-IV
3. A-I, B-II, C-IV, D-III
4. A-III, B-IV, C-I, D-II

Options :

485584145593. 1  
485584145594. 2  
485584145595. 3  
485584145596. 4

Question Number : 15 Question Id : 48558436400 Question Type : MCQ Option Shuffling : No Is Question Mandatory : No Calculator : None Response Time : N.A Think Time : N.A Minimum Instruction Time : 0

Correct Marks : 5 Wrong Marks : 1

Question Key Details :

| Key | Value |
|-----|-------|
|-----|-------|

Multiple additions of new genes or alleles to the new population and their loss from the old population of a particular place due to migration is known as:

1. Gene flow
2. Genetic drift
3. Mutation
4. Natural selection

**Options :**

485584145597. 1  
485584145598. 2  
485584145599. 3  
485584145600. 4

**Question Number : 15 Question Id : 48558436400 Question Type : MCQ Option Shuffling : No Is Question Mandatory : No Calculator : None Response Time : N.A Think Time : N.A Minimum Instruction Time : 0**

**Correct Marks : 5 Wrong Marks : 1**

**Question Key Details :**

| Key           | Value |
|---------------|-------|
| Comprehension | MCQ   |

नवीन जनसंख्येत नवीन जनुने किंवा युग्मविकल्पे असंख्य पणे जमा होणे व त्यांचे जुन्या जनसंख्येतून एखाद्या जागेवरून स्थलांतरामुळे निधून (हरवणे) जाणे याला \_\_\_\_\_ म्हणतात.

1. जनुकांचा प्रवाह
2. जनुकीय (भरकटणे) रोख
3. उत्परिवर्तन
4. नैसर्गिक निवड

**Options :**

485584145597. 1  
485584145598. 2  
485584145599. 3  
485584145600. 4

**Question Number : 16 Question Id : 48558436401 Question Type : MCQ Option Shuffling : No Is Question Mandatory : No Calculator : None Response Time : N.A Think Time : N.A Minimum Instruction Time : 0**

**Correct Marks : 5 Wrong Marks : 1**

**Question Key Details :**

| Key           | Value |
|---------------|-------|
| Comprehension | MCQ   |

Australian marsupials show the phenomena of:

1. Convergent evolution
2. Adaptive radiation
3. Isolation
4. Saltation

**Options :**

485584145601. 1



485584145602. 2  
485584145603. 3  
485584145604. 4

**Question Number : 16 Question Id : 48558436401 Question Type : MCQ Option Shuffling : No Is Question Mandatory : No Calculator : None Response Time : N.A Think Time : N.A Minimum Instruction Time : 0**

**Correct Marks : 5 Wrong Marks : 1**

**Question Key Details :**

| Key           | Value |
|---------------|-------|
| Comprehension | MCQ   |

ऑस्ट्रेलियातील मार्सुपियल कोणती दृश्यघटना दाखवतात?

1. समविकासी उत्क्रांति
2. अनुकूल विकिरण
3. विविक्ति
4. उत्परिवर्तन

**Options :**

485584145601. 1  
485584145602. 2  
485584145603. 3  
485584145604. 4

**Question Number : 17 Question Id : 48558436402 Question Type : MCQ Option Shuffling : No Is Question Mandatory : No Calculator : None Response Time : N.A Think Time : N.A Minimum Instruction Time : 0**

**Correct Marks : 5 Wrong Marks : 1**

**Question Key Details :**

| Key           | Value |
|---------------|-------|
| Comprehension | MCQ   |

Identify the examples of evolution caused due to anthropogenic actions:

- A. *Bacillus thuringiensis* and Lepidopterans
- B. Industrial melanism in moths
- C. Resistant microbes against antibiotics
- D. Pesticides and insects

Choose the correct answer from the options given below:

1. A, B and C only
2. A, B and D only
3. B, C and D only
4. A, C and D Only

**Options :**

485584145605. 1  
485584145606. 2  
485584145607. 3  
485584145608. 4

**Question Number : 17 Question Id : 48558436402 Question Type : MCQ Option Shuffling : No Is Question Mandatory : No Calculator : None Response Time : N.A Think Time : N.A Minimum Instruction Time : 0**

**Correct Marks : 5 Wrong Marks : 1**

**Question Key Details :**

|               |              |
|---------------|--------------|
| <b>Key</b>    | <b>Value</b> |
| Comprehension | MCQ          |

मानवी हालचाली व क्रियांमुळे होणाऱ्या उत्क्रांती उदाहरणे ओळखा.

- बॅसिलस थुरिनजेसिस आणि लेपिडोपटेरेन्स
- पतंगामधे औद्योगिक श्यामलता
- सूक्ष्म जीवाणूचे प्रतिजैविकांना विरोध
- कीटकनाशक आणि कीटक

खालील पर्यायातून योग्य उत्तर शोधा:

- A, B and C only
- A, B and D only
- B, C and D only
- A, C and D Only

**Options :**

485584145605. 1  
485584145606. 2  
485584145607. 3  
485584145608. 4

**Question Number : 18 Question Id : 48558436403 Question Type : MCQ Option Shuffling : No Is Question Mandatory : No Calculator : None Response Time : N.A Think Time : N.A Minimum Instruction Time : 0**

**Correct Marks : 5 Wrong Marks : 1**

**Question Key Details :**

|               |              |
|---------------|--------------|
| <b>Key</b>    | <b>Value</b> |
| Comprehension | MCQ          |

The presence of which disease is confirmed by Widal Test?

- Malaria
- Pneumonia
- Typhoid
- AIDS

**Options :**

485584145609. 1  
485584145610. 2  
485584145611. 3  
485584145612. 4

**Question Number : 18 Question Id : 48558436403 Question Type : MCQ Option Shuffling : No Is Question Mandatory : No Calculator : None Response Time : N.A Think Time : N.A Minimum Instruction Time : 0**

**Correct Marks : 5 Wrong Marks : 1**

**Question Key Details :**

|               |              |
|---------------|--------------|
| <b>Key</b>    | <b>Value</b> |
| Comprehension | MCQ          |

विडाल चाचणी ने कोणत्या रोगाचे अस्तित्व सिद्ध होते?

1. मलेरिया
2. न्युमोनिया
3. टायफॉइड
4. एड्स

**Options :**

485584145609. 1  
485584145610. 2  
485584145611. 3  
485584145612. 4

**Question Number : 19 Question Id : 48558436404 Question Type : MCQ Option Shuffling : No Is Question Mandatory : No Calculator : None Response Time : N.A Think Time : N.A Minimum Instruction Time : 0**

**Correct Marks : 5 Wrong Marks : 1**

**Question Key Details :**

| Key           | Value |
|---------------|-------|
| Comprehension | MCQ   |

Arrange the stages of HIV infection in humans sequentially.

- A. Introduction of viral DNA in the cell
- B. Production of multiple viruses
- C. Infection of human cell by virus
- D. Incorporation of viral DNA into host genome

Choose the correct answer from the options given below:

1. A, B, D, C
2. C, A, D, B
3. D, A, B, C
4. B, A, D, C

**Options :**

485584145613. 1  
485584145614. 2  
485584145615. 3  
485584145616. 4

**Question Number : 19 Question Id : 48558436404 Question Type : MCQ Option Shuffling : No Is Question Mandatory : No Calculator : None Response Time : N.A Think Time : N.A Minimum Instruction Time : 0**

**Correct Marks : 5 Wrong Marks : 1**

**Question Key Details :**

| Key           | Value |
|---------------|-------|
| Comprehension | MCQ   |

मानवा मध्ये HIV संक्रमण होण्याच्या पायऱ्यांचा योग्य क्रम लावा

- पेशीमध्ये विषाणूच्या DNA चा शिरकाव
- बहुविध विषाणूंचे बनने
- मानवाच्या पेशी मध्ये विषाणूंचे संक्रमण
- यजमान जीनोम मध्ये विषाणू DNA समाविष्ट आहे

खालील पर्यायातून योग्य उत्तर शोधा:

- A, B, D, C
- C, A, D, B
- D, A, B, C
- B, A, D, C

Options :

485584145613. 1
485584145614. 2
485584145615. 3
485584145616. 4

Question Number : 20 Question Id : 48558436405 Question Type : MCQ Option Shuffling : No Is Question Mandatory : No Calculator : None Response Time : N.A Think Time : N.A Minimum Instruction Time : 0

Correct Marks : 5 Wrong Marks : 1

Question Key Details :

| Key           | Value |
|---------------|-------|
| Comprehension | MCQ   |

Match List I with List II

| LIST I<br>Causal organism |                              | LIST II<br>Disease |               |
|---------------------------|------------------------------|--------------------|---------------|
| A.                        | <i>Wuchereria bancrofti</i>  | I.                 | Ringworm      |
| B.                        | <i>Microsporium</i>          | II.                | Elephantiasis |
| C.                        | <i>Entamoeba histolytica</i> | III.               | Malaria       |
| D.                        | <i>Plasmodium vivax</i>      | IV.                | Amoebiasis    |

Choose the correct answer from the options given below:

- A-II, B-I, C-IV, D-III
- A-I, B-II, C-III, D-IV
- A-IV, B-III, C-II, D-I
- A-I, B-II, C-IV, D-III

Options :

485584145617. 1
485584145618. 2
485584145619. 3
485584145620. 4

Question Number : 20 Question Id : 48558436405 Question Type : MCQ Option Shuffling : No Is Question Mandatory : No Calculator : None Response Time : N.A Think Time : N.A Minimum Instruction Time : 0

Correct Marks : 5 Wrong Marks : 1

Question Key Details :

| Key           | Value |
|---------------|-------|
| Comprehension | MCQ   |

यादी I ची यादी II शी जोडी लावा

| यादी I                     | यादी II        |
|----------------------------|----------------|
| A. लूकरेरिया वॅकोफटी       | I. नायटा       |
| B. मायक्रासोरम             | II. हत्तीरिंग  |
| C. एन्टअमिबा डिस्टिटीका    | III. मत्तोरिया |
| D. प्लासमोडिअम व्हायव्हॅकस | IV. अमिबापोसिस |

खालील पर्यायातून योग्य उत्तर शोधा:

1. A-II, B-I, C-IV, D-III
2. A-I, B-II, C-III, D-IV
3. A-IV, B-III, C-II, D-I
4. A-I, B-II, C-IV, D-III

**Options :**

485584145617. 1  
485584145618. 2  
485584145619. 3  
485584145620. 4

**Question Number : 21 Question Id : 48558436406 Question Type : MCQ Option Shuffling : No Is Question Mandatory : No Calculator : None Response Time : N.A Think Time : N.A Minimum Instruction Time : 0**

**Correct Marks : 5 Wrong Marks : 1**

**Question Key Details :**

| Key           | Value |
|---------------|-------|
| Comprehension | MCQ   |

Homozygosity is achieved through :

1. Recombinant DNA technology
2. Vaccination
3. Inbreeding
4. Hybridoma technology

**Options :**

485584145621. 1  
485584145622. 2  
485584145623. 3  
485584145624. 4

**Question Number : 21 Question Id : 48558436406 Question Type : MCQ Option Shuffling : No Is Question Mandatory : No Calculator : None Response Time : N.A Think Time : N.A Minimum Instruction Time : 0**

**Correct Marks : 5 Wrong Marks : 1**

**Question Key Details :**

| Key           | Value |
|---------------|-------|
| Comprehension | MCQ   |

खालील पैकी कशापासून समयुग्मनजता मिळेल?

1. पुनःसंयोजी DNA तंत्रज्ञान
2. लसीकरण
3. अंतप्रजनन
4. डाइब्रीजिंग तंत्रज्ञान

**Options :**

485584145621. 1  
485584145622. 2  
485584145623. 3  
485584145624. 4

**Question Number : 22 Question Id : 48558436407 Question Type : MCQ Option Shuffling : No Is Question Mandatory : No Calculator : None Response Time : N.A Think Time : N.A Minimum Instruction Time : 0**

**Correct Marks : 5 Wrong Marks : 1**

**Question Key Details :**

| Key           | Value |
|---------------|-------|
| Comprehension | MCQ   |

Arrange the steps involved in breeding a crop for a new genetic variety in sequence.

- A. Selection and testing of superior recombinants
- B. Evaluation and selection of parents
- C. Collection of variability
- D. Testing release and commercialisation of new cultivars
- E. Cross hybridisation among selected parents

Choose the correct answer from the options given below:

1. A → C → B → E → D
2. B → D → A → C → E
3. C → B → E → A → D
4. D → B → A → E → C

**Options :**

485584145625. 1  
485584145626. 2  
485584145627. 3  
485584145628. 4

**Question Number : 22 Question Id : 48558436407 Question Type : MCQ Option Shuffling : No Is Question Mandatory : No Calculator : None Response Time : N.A Think Time : N.A Minimum Instruction Time : 0**

**Correct Marks : 5 Wrong Marks : 1**

**Question Key Details :**

| Key           | Value |
|---------------|-------|
| Comprehension | MCQ   |

पिकांचे प्रजननात नवीन जनुकीय प्रकार मिळवण्यासाठी करण्यात येणाऱ्या पायऱ्यांचा योग्य क्रम लावा.

- चंगला दर्जा असलेल्या संकरित वनस्पतीची
- निवड व चाचणी योग्य जनकांची निवड व मूल्यमापन
- परिवर्तनीय संकलन नवीन ल्यार झालेली संकरित वाणांची चाचणी, व्यापारिकरण
- निवडलेल्या जनकांमध्ये संकर

खालील पर्यायातून बरोबर उत्तर शोधा

- A → C → B → E → D
- B → D → A → C → E
- C → B → E → A → D
- D → B → A → E → C

Options :

485584145625. 1  
485584145626. 2  
485584145627. 3  
485584145628. 4

Question Number : 23 Question Id : 48558436408 Question Type : MCQ Option Shuffling : No Is Question Mandatory : No Calculator : None  
Response Time : N.A Think Time : N.A Minimum Instruction Time : 0

Correct Marks : 5 Wrong Marks : 1

Question Key Details :

| Key           | Value |
|---------------|-------|
| Comprehension | MCQ   |

Match List I with List II

| LIST I                | LIST II         |
|-----------------------|-----------------|
| A. <i>Apis indica</i> | I. Dairying     |
| B. <i>Canla</i>       | II. Poultry     |
| C. Leghorn            | III. Fisheries  |
| D. Jersey             | IV. Bee-keeping |

Choose the correct answer from the options given below:

- A-I, B-II, C-III, D-IV
- A-II, B-I, C-III, D-IV
- A-IV, B-III, C-II, D-I
- A-III, B-IV, C-I, D-II

Options :

485584145629. 1  
485584145630. 2  
485584145631. 3  
485584145632. 4

Question Number : 23 Question Id : 48558436408 Question Type : MCQ Option Shuffling : No Is Question Mandatory : No Calculator : None  
Response Time : N.A Think Time : N.A Minimum Instruction Time : 0

Correct Marks : 5 Wrong Marks : 1

Question Key Details :

| Key           | Value |
|---------------|-------|
| Comprehension | MCQ   |

यादी I ची यादी II शी जोडी लावा

| यादी I          | यादी II                  |
|-----------------|--------------------------|
| A. एपिस इन्डिका | I. डेअरी (दुग्धालय)      |
| B. कटला         | II. पोल्टी (कुक्कुटपालन) |
| C. लिंगहॉर्न    | III. नस्यपालन            |
| D. जूसी         | IV. मध्यमाशीपालन         |

खालील पर्यायतून योग्य उत्तर शोधा:

1. A-I, B-II, C-III, D-IV
2. A-II, B-I, C-III, D-IV
3. A-IV, B-III, C-II, D-I
4. A-III, B-IV, C-I, D-II

**Options :**

485584145629. 1  
485584145630. 2  
485584145631. 3  
485584145632. 4

**Question Number : 24 Question Id : 48558436409 Question Type : MCQ Option Shuffling : No Is Question Mandatory : No Calculator : None Response Time : N.A Think Time : N.A Minimum Instruction Time : 0**

**Correct Marks : 5 Wrong Marks : 1**

**Question Key Details :**

| Key           | Value |
|---------------|-------|
| Comprehension | MCQ   |

Which of the following microbe serves as an important biofertiliser in paddy field?

1. Cyanobacteria
2. *Rhizobium*
3. Mycorrhiza
4. *Bacillus thuringiensis*

**Options :**

485584145633. 1  
485584145634. 2  
485584145635. 3  
485584145636. 4

**Question Number : 24 Question Id : 48558436409 Question Type : MCQ Option Shuffling : No Is Question Mandatory : No Calculator : None Response Time : N.A Think Time : N.A Minimum Instruction Time : 0**

**Correct Marks : 5 Wrong Marks : 1**

**Question Key Details :**

| Key           | Value |
|---------------|-------|
| Comprehension | MCQ   |



भाताच्या शेतात जैविक खत म्हणून खालील पैकी कोणता सूक्ष्मजीव वापरले जातात?

1. सायनोबॅक्टेरिया
2. रायझोबियम
3. मायकोशायझा
4. बॅसिलस थुरिन्गेन्सिस

**Options :**

485584145633. 1  
485584145634. 2  
485584145635. 3  
485584145636. 4

**Question Number : 25 Question Id : 48558436410 Question Type : MCQ Option Shuffling : No Is Question Mandatory : No Calculator : None Response Time : N.A Think Time : N.A Minimum Instruction Time : 0**

**Correct Marks : 5 Wrong Marks : 1**

**Question Key Details :**

| Key           | Value |
|---------------|-------|
| Comprehension | MCQ   |

Identify the correct statements with respect to microbes.

- A. "Toddy" the traditional drink obtained by fermenting sap of Palm tree.
- B. Swiss cheese's large holes are due to activity of *Saccharomyces cerevisiae*.
- C. "Penicillin" was discovered by Alexander Fleming.
- D. The Cyclosporin A, is produced by *Trichoderma polysporum*.

Choose the the correct answer from the options given below:

1. A, B and D only
2. A and B only
3. A, C, and D only
4. C and D only

**Options :**

485584145637. 1  
485584145638. 2  
485584145639. 3  
485584145640. 4

**Question Number : 25 Question Id : 48558436410 Question Type : MCQ Option Shuffling : No Is Question Mandatory : No Calculator : None Response Time : N.A Think Time : N.A Minimum Instruction Time : 0**

**Correct Marks : 5 Wrong Marks : 1**

**Question Key Details :**

| Key           | Value |
|---------------|-------|
| Comprehension | MCQ   |

सूक्ष्मजीवां बद्दल बरोबर विधाने ओळखा.

- पाम च्या झाडातील रसाचे किण्वन केल्यावर ताडी हे पारंपारिक पेय तयार होते.
- सेकरोमायसिस सेरेक्सेच्या क्रियांमुळे स्वीस चीज मध्ये मोठी छिद्र तयार होतात.
- एलेकझेंडर फ्लेमिंग यांनी पेनिसिलीन चा शोध लावला.
- ट्रायकोडर्मा पॉलीस्पोरम पासू सायबलोस्पोरिन A बनतो.

खालील पर्यायातून योग्य उत्तर शोधा:

- केवळ A, B आणि D
- केवळ A, B
- केवळ A, C, आणि D
- केवळ C आणि D

Options :

485584145637. 1  
485584145638. 2  
485584145639. 3  
485584145640. 4

Question Number : 26 Question Id : 48558436411 Question Type : MCQ Option Shuffling : No Is Question Mandatory : No Calculator : None  
Response Time : N.A Think Time : N.A Minimum Instruction Time : 0

Correct Marks : 5 Wrong Marks : 1

Question Key Details :

| Key           | Value |
|---------------|-------|
| Comprehension | MCQ   |

Match List I with List II

| LIST I<br>Organism                 | LIST II<br>Product |
|------------------------------------|--------------------|
| A. <i>Streptococcus</i>            | I. Citric acid     |
| B. <i>Aspergillus niger</i>        | II. Streptokinase  |
| C. <i>Monascus purpureus</i>       | III. Ethanol       |
| D. <i>Saccharomyces cerevisiae</i> | IV. Statin         |

Choose the correct answer from the options given below:

- A-II, B-I, C-IV, D-III
- A-I, B-II, C-III, D-IV
- A-II, B-I, C-III, D-IV
- A-III, B-IV, C-I, D-II

Options :

485584145641. 1  
485584145642. 2  
485584145643. 3  
485584145644. 4

Question Number : 26 Question Id : 48558436411 Question Type : MCQ Option Shuffling : No Is Question Mandatory : No Calculator : None  
Response Time : N.A Think Time : N.A Minimum Instruction Time : 0

Correct Marks : 5 Wrong Marks : 1

Question Key Details :

| Key           | Value |
|---------------|-------|
| Comprehension | MCQ   |

यादी I ची यादी II शी जोडी लावा

| यादी I<br>जीव            | यादी II<br>उत्पादन |
|--------------------------|--------------------|
| A. स्ट्रेप्टोकॉकस        | I. सायट्रिक आम्ल   |
| B. एस्पेरजॉलस नायगर      | II. स्ट्रेप्टोकॉकस |
| C. मोनाक्स परपूरियस      | III. इन्वर्नॉल     |
| D. सिकरॉमापसिस सेरेव्हिस | IV. स्टेरिन        |

खालील पर्यायातून अचूक उत्तर शोधा:

1. A-II, B-I, C-IV, D-III
2. A-I, B-II, C-III, D-IV
3. A-II, B-I, C-III, D-IV
4. A-III, B-IV, C-I, D-II

**Options :**

485584145641. 1  
485584145642. 2  
485584145643. 3  
485584145644. 4

**Question Number : 27 Question Id : 48558436412 Question Type : MCQ Option Shuffling : No Is Question Mandatory : No Calculator : None Response Time : N.A Think Time : N.A Minimum Instruction Time : 0**

**Correct Marks : 5 Wrong Marks : 1**

**Question Key Details :**

| Key           | Value |
|---------------|-------|
| Comprehension | MCQ   |

Which of the following is not a part of downstream processing?

1. Separation
2. Purification
3. Quality control
4. Biosynthesis

**Options :**

485584145645. 1  
485584145646. 2  
485584145647. 3  
485584145648. 4

**Question Number : 27 Question Id : 48558436412 Question Type : MCQ Option Shuffling : No Is Question Mandatory : No Calculator : None Response Time : N.A Think Time : N.A Minimum Instruction Time : 0**

**Correct Marks : 5 Wrong Marks : 1**

**Question Key Details :**

| Key           | Value |
|---------------|-------|
| Comprehension | MCQ   |

खालील पैकी कोणता प्रक्रियेच्या प्रवाहातील नंतरच्या पायऱ्यामधील प्रकार नाही?

1. विभक्त करणे
2. शुद्धीकरण
3. गुणवत्ता नियंत्रण
4. जैव संश्लेषण

**Options :**

485584145645. 1  
485584145646. 2  
485584145647. 3  
485584145648. 4

**Question Number : 28 Question Id : 48558436413 Question Type : MCQ Option Shuffling : No Is Question Mandatory : No Calculator : None Response Time : N.A Think Time : N.A Minimum Instruction Time : 0**

**Correct Marks : 5 Wrong Marks : 1**

**Question Key Details :**

| Key           | Value |
|---------------|-------|
| Comprehension | MCQ   |

Which was the first restriction endonuclease discovered?

1. *EcoRI*
2. *BamHI*
3. *HindII*
4. *PstI*

**Options :**

485584145649. 1  
485584145650. 2  
485584145651. 3  
485584145652. 4

**Question Number : 28 Question Id : 48558436413 Question Type : MCQ Option Shuffling : No Is Question Mandatory : No Calculator : None Response Time : N.A Think Time : N.A Minimum Instruction Time : 0**

**Correct Marks : 5 Wrong Marks : 1**

**Question Key Details :**

| Key           | Value |
|---------------|-------|
| Comprehension | MCQ   |

खालील पैकी सर्वात आमोदर मिळालेले रेस्ट्रिक्शन विकर कोणते?

1. *EcoRI*
2. *BamHI*
3. *HindII*
4. *PstI*

**Options :**

485584145649. 1  
485584145650. 2  
485584145651. 3  
485584145652. 4

Question Number : 29 Question Id : 48558436414 Question Type : MCQ Option Shuffling : No Is Question Mandatory : No Calculator : None Response Time : N.A Think Time : N.A Minimum Instruction Time : 0

Correct Marks : 5 Wrong Marks : 1

Question Key Details :

| Key           | Value |
|---------------|-------|
| Comprehension | MCQ   |

The correct sequence of steps to obtain gene of interest from pool of DNA is:

- Cutting of DNA using restriction endonuclease.
- Viewing the ethidium bromide stained gel under UV light.
- Loading of DNA in wells.
- Cutting and extraction of DNA piece from gel.
- Separation of DNA fragments according to their molecular size.

Choose the correct answer from the options given below:

- A, C, E, B, D
- A, D, C, B, E
- E, D, B, C, A
- D, E, C, A, B

Options :

485584145653. 1  
485584145654. 2  
485584145655. 3  
485584145656. 4

Question Number : 29 Question Id : 48558436414 Question Type : MCQ Option Shuffling : No Is Question Mandatory : No Calculator : None Response Time : N.A Think Time : N.A Minimum Instruction Time : 0

Correct Marks : 5 Wrong Marks : 1

Question Key Details :

| Key           | Value |
|---------------|-------|
| Comprehension | MCQ   |

DNA च्या साठ्यातून हवा असलेला जीव मिळण्यासाठीच्या प्रक्रियेतील टप्प्यांचा योग्य क्रम लावा:

- रेस्ट्रिक्शन एन्डोन्युक्लियोज विकर विकर वापरून DNA ला कापणे.
- इथिडिअम ब्रोमाइडने अभिरंजीत केलेल्या जेल ला UV प्रकाशात पाहणे.
- जेलच्या खांचामध्ये DNA ला कोठ करणे.
- DNA ला जेल पासून वेगळा काढणे व कापणे.
- DNA च्या खंडाना रेणवीय आकारानुसार वेगळे करणे.

खालील पर्यायातून अचूक उत्तर शोधा:

- A, C, E, B, D
- A, D, C, B, E
- E, D, B, C, A
- D, E, C, A, B

Options :

485584145653. 1  
485584145654. 2  
485584145655. 3  
485584145656. 4

Question Number : 30 Question Id : 48558436415 Question Type : MCQ Option Shuffling : No Is Question Mandatory : No Calculator : None Response Time : N.A Think Time : N.A Minimum Instruction Time : 0

Correct Marks : 5 Wrong Marks : 1

Question Key Details :

| Key           | Value |
|---------------|-------|
| Comprehension | MCQ   |

Over 95% of all existing transgenic animals are:

1. Mice
2. Goat
3. Rabbit
4. Pig

Options :

485584145657. 1  
485584145658. 2  
485584145659. 3  
485584145660. 4

Question Number : 30 Question Id : 48558436415 Question Type : MCQ Option Shuffling : No Is Question Mandatory : No Calculator : None Response Time : N.A Think Time : N.A Minimum Instruction Time : 0

Correct Marks : 5 Wrong Marks : 1

Question Key Details :

| Key           | Value |
|---------------|-------|
| Comprehension | MCQ   |

ट्रान्सजेनिक प्राण्यांमध्ये 95% पेक्षा जास्त हे प्राणी आहेत:

1. उंदिर
2. शेळी
3. ससा
4. डुक्कर

Options :

485584145657. 1  
485584145658. 2  
485584145659. 3  
485584145660. 4

Question Number : 31 Question Id : 48558436416 Question Type : MCQ Option Shuffling : No Is Question Mandatory : No Calculator : None Response Time : N.A Think Time : N.A Minimum Instruction Time : 0

Correct Marks : 5 Wrong Marks : 1

Question Key Details :

| Key           | Value |
|---------------|-------|
| Comprehension | MCQ   |

A novel strategy to prevent infestation of roots of tobacco plant with the nematode *Meloidogyne incognita* is :

1. DNA interference
2. DNA-RNA interference
3. RNA interference
4. RNA-Protein interference

**Options :**

485584145661. 1  
485584145662. 2  
485584145663. 3  
485584145664. 4

**Question Number : 31 Question Id : 48558436416 Question Type : MCQ Option Shuffling : No Is Question Mandatory : No Calculator : None Response Time : N.A Think Time : N.A Minimum Instruction Time : 0**

**Correct Marks : 5 Wrong Marks : 1**

**Question Key Details :**

| Key           | Value |
|---------------|-------|
| Comprehension | MCQ   |

मेलिओडिगायने इन्कोग्निशिया या गोलकृमीचे संक्रमण तंबाखू जाडांच्या मुळांना रोखण्याची खालील पैकी कोणती नवीन पध्दत आहे?

1. DNA व्यत्यय (इन्टरफिअरन्स)
2. DNA-RNA व्यत्यय (इन्टरफिअरन्स)
3. RNA व्यत्यय (इन्टरफिअरन्स)
4. RNA-प्रथिने व्यत्यय (इन्टरफिअरन्स)

**Options :**

485584145661. 1  
485584145662. 2  
485584145663. 3  
485584145664. 4

**Question Number : 32 Question Id : 48558436417 Question Type : MCQ Option Shuffling : No Is Question Mandatory : No Calculator : None Response Time : N.A Think Time : N.A Minimum Instruction Time : 0**

**Correct Marks : 5 Wrong Marks : 1**

**Question Key Details :**

| Key           | Value |
|---------------|-------|
| Comprehension | MCQ   |

Match List I with List II

| LIST I |                               | LIST II |   |
|--------|-------------------------------|---------|---|
| A.     | <i>Bacillus thuringiensis</i> | I.      | Synthetic Human Insulin                 |
| B.     | <i>Agrobacterium</i>          | II.     | ADA gene therapy                        |
| C.     | <i>E. Coli</i>                | III.    | Cry gene                                |
| D.     | Retroviral Vector             | IV.     | Vector carrying nematode-specific genes |

Choose the correct answer from the options given below:

1. A-III, B-IV, C-I, D-II
2. A-II, B-I, C-III, D-IV
3. A-I, B-III, C-IV, D-II
4. A-IV, B-II, C-I, D-III

Options :

485584145665. 1  
485584145666. 2  
485584145667. 3  
485584145668. 4

Question Number : 32 Question Id : 48558436417 Question Type : MCQ Option Shuffling : No Is Question Mandatory : No Calculator : None Response Time : N.A Think Time : N.A Minimum Instruction Time : 0

Correct Marks : 5 Wrong Marks : 1

Question Key Details :

| Key           | Value |
|---------------|-------|
| Comprehension | MCQ   |

यादी I ची यादी II शी जोडी लावा

| यादी I |                             | यादी II |                                      |
|--------|-----------------------------|---------|--------------------------------------|
| A.     | <i>बॅसिलस थुरिंग्जेंसिस</i> | I.      | कृत्रिम मानवी इन्सुलिन               |
| B.     | एग्रोबॅक्टीरियम             | II.     | ADA जीनी उपचार                       |
| C.     | इ. कोली                     | III.    | Cry जीन                              |
| D.     | रिट्रोव्हायरल व्हेक्टर      | IV.     | गोलकृमितील नेमका जीन असलेला व्हेक्टर |

खालील पर्यायातून अचूक उत्तर शोधा:

1. A-III, B-IV, C-I, D-II
2. A-II, B-I, C-III, D-IV
3. A-I, B-III, C-IV, D-II
4. A-IV, B-II, C-I, D-III

Options :

485584145665. 1  
485584145666. 2  
485584145667. 3  
485584145668. 4

Question Number : 33 Question Id : 48558436418 Question Type : MCQ Option Shuffling : No Is Question Mandatory : No Calculator : None Response Time : N.A Think Time : N.A Minimum Instruction Time : 0

Correct Marks : 5 Wrong Marks : 1

Question Key Details :

| Key | Value |
|-----|-------|
|-----|-------|



Identify the commensalism from the following associations:

1. Fungi and roots of higher plants.
2. Cuckoo and crow during breeding season
3. Fig species and wasp
4. Sea anemone and clown fish

**Options :**

485584145669. 1  
485584145670. 2  
485584145671. 3  
485584145672. 4

**Question Number : 33 Question Id : 48558436418 Question Type : MCQ Option Shuffling : No Is Question Mandatory : No Calculator : None Response Time : N.A Think Time : N.A Minimum Instruction Time : 0**

**Correct Marks : 5 Wrong Marks : 1**

**Question Key Details :**

| Key           | Value |
|---------------|-------|
| Comprehension | MCQ   |

खालील पैकी सहभोजिता सहचरण कोण दाखवतात?

1. कवक आणि उच्चवर्गीय वनस्पतींची मुळे
2. विषीच्या इंगामात आणि अजीर
3. गांधील माशी आणि अजीर
4. सी ऍनिमोन आणि क्लॉउन मासा

**Options :**

485584145669. 1  
485584145670. 2  
485584145671. 3  
485584145672. 4

**Question Number : 34 Question Id : 48558436419 Question Type : MCQ Option Shuffling : No Is Question Mandatory : No Calculator : None Response Time : N.A Think Time : N.A Minimum Instruction Time : 0**

**Correct Marks : 5 Wrong Marks : 1**

**Question Key Details :**

| Key           | Value |
|---------------|-------|
| Comprehension | MCQ   |

Select the organisms that can tolerate wide range of temperatures:

1. Eurythermals
2. Stenothermals
3. Conformers
4. Osmoregulators

**Options :**

485584145673. 1  
485584145674. 2  
485584145675. 3

485584145676. 4

Question Number : 34 Question Id : 48558436419 Question Type : MCQ Option Shuffling : No Is Question Mandatory : No Calculator : None  
Response Time : N.A Think Time : N.A Minimum Instruction Time : 0

Correct Marks : 5 Wrong Marks : 1

Question Key Details :

| Key           | Value |
|---------------|-------|
| Comprehension | MCQ   |

खालील पैकी विस्तारित तापमान सहन करणाऱ्या जीव कोणते?

1. युरिधर्मलस
2. स्टेनोथर्मलस
3. कॉनफॉर्मस
4. ऑस्मोरिग्युलेटरस

Options :

485584145673. 1  
485584145674. 2  
485584145675. 3  
485584145676. 4

Question Number : 35 Question Id : 48558436420 Question Type : MCQ Option Shuffling : No Is Question Mandatory : No Calculator : None  
Response Time : N.A Think Time : N.A Minimum Instruction Time : 0

Correct Marks : 5 Wrong Marks : 1

Question Key Details :

| Key           | Value |
|---------------|-------|
| Comprehension | MCQ   |

The rate of decomposition is controlled by:

1. Chemical composition of detritus only
2. Climatic factors only
3. Both chemical composition of detritus and climatic factors
4. Atmospheric pressure

Options :

485584145677. 1  
485584145678. 2  
485584145679. 3  
485584145680. 4

Question Number : 35 Question Id : 48558436420 Question Type : MCQ Option Shuffling : No Is Question Mandatory : No Calculator : None  
Response Time : N.A Think Time : N.A Minimum Instruction Time : 0

Correct Marks : 5 Wrong Marks : 1

Question Key Details :

| Key           | Value |
|---------------|-------|
| Comprehension | MCQ   |

विघटनाचा दशचे नियंत्रण हे करतात.

1. केवळ गाळाते रासायनिक घटक
2. केवळ हवामानातील घटक
3. दोन्ही गाळातील रासायनिक घटक व हवामानातील घटक
4. वातावरणातील दाब

**Options :**

485584145677. 1  
485584145678. 2  
485584145679. 3  
485584145680. 4

**Question Number : 36 Question Id : 48558436421 Question Type : MCQ Option Shuffling : No Is Question Mandatory : No Calculator : None Response Time : N.A Think Time : N.A Minimum Instruction Time : 0**

**Correct Marks : 5 Wrong Marks : 1**

**Question Key Details :**

| Key           | Value |
|---------------|-------|
| Comprehension | MCQ   |

The Net Primary Productivity (NPP) is :

1. Gross Primary Productivity – Respiration losses
2. Gross Primary Productivity + Respiration losses
3. Gross Primary Productivity × Respiration losses
4. Respiration losses – Gross Primary Productivity

**Options :**

485584145681. 1  
485584145682. 2  
485584145683. 3  
485584145684. 4

**Question Number : 36 Question Id : 48558436421 Question Type : MCQ Option Shuffling : No Is Question Mandatory : No Calculator : None Response Time : N.A Think Time : N.A Minimum Instruction Time : 0**

**Correct Marks : 5 Wrong Marks : 1**

**Question Key Details :**

| Key           | Value |
|---------------|-------|
| Comprehension | MCQ   |

निव्वळ प्राथमिक निर्मिती दर (NPP) म्हणजे :

1. एकूण प्राथमिक निर्मिती दर– श्वसन
2. एकूण प्राथमिक निर्मिती दर + श्वसन
3. एकूण प्राथमिक निर्मिती दर × श्वसन
4. श्वसन – एकूण प्राथमिक निर्मिती दर

**Options :**

485584145681. 1  
485584145682. 2  
485584145683. 3

485584145684. 4

Question Number : 37 Question Id : 48558436422 Question Type : MCQ Option Shuffling : No Is Question Mandatory : No Calculator : None  
Response Time : N.A Think Time : N.A Minimum Instruction Time : 0  
Correct Marks : 5 Wrong Marks : 1

Question Key Details :

| Key           | Value |
|---------------|-------|
| Comprehension | MCQ   |

Which of the following country has the highest biodiversity?

1. Brazil
2. Zimbabwe
3. Russia
4. India

Options :

485584145685. 1  
485584145686. 2  
485584145687. 3  
485584145688. 4

Question Number : 37 Question Id : 48558436422 Question Type : MCQ Option Shuffling : No Is Question Mandatory : No Calculator : None  
Response Time : N.A Think Time : N.A Minimum Instruction Time : 0

Correct Marks : 5 Wrong Marks : 1

Question Key Details :

| Key           | Value |
|---------------|-------|
| Comprehension | MCQ   |

खालील पैकी कोणत्या देशात सर्वाधिक जैवविविधता आहे?

1. ब्राझील
2. झिंबाबवे
3. रशिया
4. भारत

Options :

485584145685. 1  
485584145686. 2  
485584145687. 3  
485584145688. 4

Question Number : 38 Question Id : 48558436423 Question Type : MCQ Option Shuffling : No Is Question Mandatory : No Calculator : None  
Response Time : N.A Think Time : N.A Minimum Instruction Time : 0

Correct Marks : 5 Wrong Marks : 1

Question Key Details :

| Key           | Value |
|---------------|-------|
| Comprehension | MCQ   |

Which of the following species has become extinct due to over exploitation by humans?

1. *Clarias gariepinus*
2. Stellers's sea cow
3. *Lantana*
4. *Parthenium*

**Options :**

485584145689. 1  
485584145690. 2  
485584145691. 3  
485584145692. 4

**Question Number : 38 Question Id : 48558436423 Question Type : MCQ Option Shuffling : No Is Question Mandatory : No Calculator : None Response Time : N.A Think Time : N.A Minimum Instruction Time : 0**

**Correct Marks : 5 Wrong Marks : 1**

**Question Key Details :**

| Key           | Value |
|---------------|-------|
| Comprehension | MCQ   |

मानवाने अति शोषमामुळे पैकी कोणाचा लोप झाला आहे?

1. क्लेरियास रेरियायनस
2. स्टेलरस सी कक (समुद्री गाय)
3. लॅन्टाना
4. पार्थेनियम

**Options :**

485584145689. 1  
485584145690. 2  
485584145691. 3  
485584145692. 4

**Question Number : 39 Question Id : 48558436424 Question Type : MCQ Option Shuffling : No Is Question Mandatory : No Calculator : None Response Time : N.A Think Time : N.A Minimum Instruction Time : 0**

**Correct Marks : 5 Wrong Marks : 1**

**Question Key Details :**

| Key           | Value |
|---------------|-------|
| Comprehension | MCQ   |

Salts are drawn to the surface of the soil by:

1. Over cultivation
2. Deforestation
3. Water logging
4. Unrestricted grazing

**Options :**

485584145693. 1  
485584145694. 2  
485584145695. 3  
485584145696. 4

Question Number : 39 Question Id : 48558436424 Question Type : MCQ Option Shuffling : No Is Question Mandatory : No Calculator : None Response Time : N.A Think Time : N.A Minimum Instruction Time : 0

Correct Marks : 5 Wrong Marks : 1

Question Key Details :

| Key           | Value |
|---------------|-------|
| Comprehension | MCQ   |

मृदेच्या पृष्ठ भागावर क्षार यामुळे येऊन जमा होतात.

1. (अति लागवड) जास्त प्रमाणात लागवड
2. निर्विनीकरण
3. पाणी साठून राहणे
4. अमर्यादित चरणे

Options :

485584145693. 1  
485584145694. 2  
485584145695. 3  
485584145696. 4

Question Number : 40 Question Id : 48558436425 Question Type : MCQ Option Shuffling : No Is Question Mandatory : No Calculator : None Response Time : N.A Think Time : N.A Minimum Instruction Time : 0

Correct Marks : 5 Wrong Marks : 1

Question Key Details :

| Key           | Value |
|---------------|-------|
| Comprehension | MCQ   |

World's most problematic aquatic weed is:

1. Free floating algae
2. *Vallisneria*
3. *Eichhornia crassipes*
4. *Chara*

Options :

485584145697. 1  
485584145698. 2  
485584145699. 3  
485584145700. 4

Question Number : 40 Question Id : 48558436425 Question Type : MCQ Option Shuffling : No Is Question Mandatory : No Calculator : None Response Time : N.A Think Time : N.A Minimum Instruction Time : 0

Correct Marks : 5 Wrong Marks : 1

Question Key Details :

| Key           | Value |
|---------------|-------|
| Comprehension | MCQ   |

जगातील सर्वात जास्त त्रासदायक जलीय तण हे आहे

1. मुक्त तरंगणारी शैवाल
2. व्हॅलिसनेरिया
3. इक्कोरनिया क्रेसिपेस
4. कारा

**Options :**

485584145697. 1  
485584145698. 2  
485584145699. 3  
485584145700. 4

**Sub-Section Number :**

2

**Sub-Section Id :**

4855842691

**Question Shuffling Allowed :**

No

**Is Section Default? :**

null

**Question Number : 41 Question Id : 48558436426 Question Type : MCQ Option Shuffling : No Is Question Mandatory : No Calculator : None Response Time : N.A Think Time : N.A Minimum Instruction Time : 0**

**Correct Marks : 5 Wrong Marks : 1**

**Question Key Details :**

| Key           | Value |
|---------------|-------|
| Comprehension | Comp1 |

**Read the given paragraph and answer the question:**

Humans have 23 pairs of chromosomes. 22 pairs are exactly same in both males and females; these are the autosomes. A pair of X-chromosome are present in the female, whereas the presence of an X and Y chromosome are determinant of the male characteristic.

A number of disorders in human beings have been found to be associated with the inheritance of changed or altered genes or chromosomes. Broadly, genetic disorder may be grouped into two categories-Mendelian disorders and Chromosomal disorders.

What is the probability of having a daughter to a couple expecting their first child?

1. Nil
2. 25%
3. 50%
4. 100%

**Options :**

485584145701. 1  
485584145702. 2  
485584145703. 3  
485584145704. 4

**Question Number : 41 Question Id : 48558436426 Question Type : MCQ Option Shuffling : No Is Question Mandatory : No Calculator : None Response Time : N.A Think Time : N.A Minimum Instruction Time : 0**

**Correct Marks : 5 Wrong Marks : 1**

**Question Key Details :**

| Key           | Value |
|---------------|-------|
| Comprehension | Comp1 |

पुढे दिलेला परिच्छेद वाचून अचूक उत्तरे निवडा.

मानवात 23 गुणसूत्रांच्या जोड्या आहेत. 22 जोड्या स्त्री व पुरुषां मध्ये एक सारख अया असतात. त्यांना अलिंगी सूत्र असे म्हणतात. स्त्री मध्ये X-गुणसूत्र आणि एक Y-गुणसूत्र असतात. मानवात अनेक विकृती जनुकांच्या किंवा गुणसूत्रांच्या बदला मुळे व त्यातील बदलेल्या घटकांची वंशागति झाल्यामुळे अढळतात. सर्वसाधारण पणे या जीनी विकृती दोन गटात विभागल्या जातात मेंडेलियन विकृती व गुणसूत्रीय विकृती.

एखाद्या जोडप्याला पहिले आपत्य मुलगी असण्याची शक्यता किती असेल?

1. काहीच नाही
2. 25%
3. 50%
4. 100%

**Options :**

485584145701. 1  
485584145702. 2  
485584145703. 3  
485584145704. 4

**Question Number : 42 Question Id : 48558436427 Question Type : MCQ Option Shuffling : No Is Question Mandatory : No Calculator : None Response Time : N.A Think Time : N.A Minimum Instruction Time : 0**

**Correct Marks : 5 Wrong Marks : 1**

**Question Key Details :**

| Key           | Value |
|---------------|-------|
| Comprehension | Comp1 |

**Read the given paragraph and answer the question:**

Humans have 23 pairs of chromosomes. 22 pairs are exactly same in both males and females; these are the autosomes. A pair of X-chromosome are present in the female, whereas the presence of an X and Y chromosome are determinant of the male characteristic.

A number of disorders in human beings have been found to be associated with the inheritance of changed or altered genes or chromosomes. Broadly, genetic disorder may be grouped into two categories-Mendelian disorders and Chromosomal disorders.

A disorder caused due to absence of one of the 'X' chromosome is -

1. Turner's Syndrome
2. Down's Syndrome
3. Klinefelter's Syndrome
4. Thalassemia

**Options :**

485584145705. 1  
485584145706. 2  
485584145707. 3  
485584145708. 4

**Question Number : 42 Question Id : 48558436427 Question Type : MCQ Option Shuffling : No Is Question Mandatory : No Calculator : None Response Time : N.A Think Time : N.A Minimum Instruction Time : 0**



Correct Marks : 5 Wrong Marks : 1

Question Key Details :

| Key           | Value |
|---------------|-------|
| Comprehension | Comp1 |

पुढे दिलेला परिच्छेद वाचून अचूक उत्तरे निवडा.

मानवात 23 गुणसूत्रांच्या जोड्या आहेत. 22 जोड्या स्त्री व पुरुषां मध्ये एक सारख अद्या असतात. त्यांना अलिंगी सूत्र असे म्हणतात. स्त्री मध्ये X-गुणसूत्र आणि एक Y-गुणसूत्र असतात. मानवात अनेक विकृती जनुकांच्या किंवा गुणसूत्रांच्या बदलांमुळे व त्यातील बदलेल्या घटकांची वंशागति झाल्यामुळे अढळतात. सर्वसाधारण पणे या जीनी विकृती दोन गटात विभागल्या जातात मॅडेसियन विकृती व गुणसूत्रीय विकृती.

एक 'X' गुणसूत्र नसल्यामुळे खालील पैकी कोणती विकृती तयार होते?

1. टर्नर ची विकृती
2. डाउन ची विकृती
3. क्लाइन फेल्टर ची विकृती
4. थेलेसेमिया

Options :

485584145705. 1  
485584145706. 2  
485584145707. 3  
485584145708. 4

Question Number : 43 Question Id : 48558436428 Question Type : MCQ Option Shuffling : No Is Question Mandatory : No Calculator : None Response Time : N.A Think Time : N.A Minimum Instruction Time : 0

Correct Marks : 5 Wrong Marks : 1

Question Key Details :

| Key           | Value |
|---------------|-------|
| Comprehension | Comp1 |

**Read the given paragraph and answer the question:**

Humans have 23 pairs of chromosomes. 22 pairs are exactly same in both males and females; these are the autosomes. A pair of X-chromosome are present in the female, whereas the presence of an X and Y chromosome are determinant of the male characteristic.

A number of disorders in human beings have been found to be associated with the inheritance of changed or altered genes or chromosomes. Broadly, genetic disorder may be grouped into two categories-Mendelian disorders and Chromosomal disorders.

A haemophilic man marries a normal woman. What is the possibility that their child have haemophilia?

1. 75%
2. 25%
3. 0%
4. 50%

Options :

485584145709. 1  
485584145710. 2  
485584145711. 3

Question Number : 43 Question Id : 48558436428 Question Type : MCQ Option Shuffling : No Is Question Mandatory : No Calculator : None  
Response Time : N.A Think Time : N.A Minimum Instruction Time : 0  
Correct Marks : 5 Wrong Marks : 1

Question Key Details :

| Key           | Value |
|---------------|-------|
| Comprehension | Comp1 |

पुढे दिलेला परिच्छेद वाचून अचूक उत्तरे निवडा.

मानवात 23 गुणसूत्रांच्या जोड्या आहेत. 22 जोड्या स्त्री व पुरुषां मध्ये एक सारख अद्या असतात. त्यांना अलिंगी सूत्र असे म्हणतात. स्त्री मध्ये X-गुणसूत्र आणि एक Y-गुणसूत्र असतात. मानवात अनेक विकृती जनुकांच्या किंवा गुणसूत्रांच्या बदलांमुळे व त्यातील बदलेल्या घटकांची वंशागति झाल्यामुळे अढळतात. सर्वसाधारण पणे या जीनी विकृती दोन गटात विभागल्या जातात मॅडेलियन विकृती व गुणसूत्रीय विकृती.

हिमोफिलिया विकृती असलेल्या पुरुषाचा विवाह विवाह सर्वसाधारण स्त्री शी झाल्यावर त्यांच्या संतति मध्ये हिमोफिलिया होण्याची शक्यता किती असेल?

1. 75%
2. 25%
3. 0%
4. 50%

Options :

485584145709. 1  
485584145710. 2  
485584145711. 3  
485584145712. 4

Question Number : 44 Question Id : 48558436429 Question Type : MCQ Option Shuffling : No Is Question Mandatory : No Calculator : None  
Response Time : N.A Think Time : N.A Minimum Instruction Time : 0  
Correct Marks : 5 Wrong Marks : 1

Question Key Details :

| Key           | Value |
|---------------|-------|
| Comprehension | Comp1 |

Read the given paragraph and answer the question:

Humans have 23 pairs of chromosomes. 22 pairs are exactly same in both males and females; these are the autosomes. A pair of X-chromosome are present in the female, whereas the presence of an X and Y chromosome are determinant of the male characteristic.

A number of disorders in human beings have been found to be associated with the inheritance of changed or altered genes or chromosomes. Broadly, genetic disorder may be grouped into two categories-Mendelian disorders and Chromosomal disorders.

Which of the following is an example of a sex linked disease?

1. Ascariasis
2. Colour blindness
3. Thalassemia
4. Phenylketonuria

**Options :**

485584145713. 1  
485584145714. 2  
485584145715. 3  
485584145716. 4

**Question Number : 44 Question Id : 48558436429 Question Type : MCQ Option Shuffling : No Is Question Mandatory : No Calculator : None Response Time : N.A Think Time : N.A Minimum Instruction Time : 0**

**Correct Marks : 5 Wrong Marks : 1**

**Question Key Details :**

| Key           | Value |
|---------------|-------|
| Comprehension | Comp1 |

पुढे दिलेला परिच्छेद वाचून अचूक उत्तरे निवडा.

मानवात 23 गुणसूत्रांच्या जोड्या आहेत. 22 जोड्या स्त्री व पुरुषां मध्ये एक सारख अया असतात. त्यांना अलिंगी सूत्र असे म्हणतात. स्त्री मध्ये X-गुणसूत्र आणि एक Y-गुणसूत्र असतात. मानवात अनेक विकृती जनुकांच्या किंवा गुणसूत्रांच्या बदला मुळे व त्यातील बदलेल्या घटकांची वंशागति झाल्यामुळे अढळतात. सर्वसाधारण पणे या जीनी विकृती दोन गटात विभागल्या जातात मॅडेलयन विकृती व गुणसूत्रीय विकृती.

खालील पैकी लिंग-निगडीत वंशागती चे उदाहरण कोणते आहे?

1. खंत विकार (एस्केरियासिस)
2. वर्णाधता
3. थेलेसेमिया
4. फेनाइलकेटोन्युरिया

**Options :**

485584145713. 1  
485584145714. 2  
485584145715. 3  
485584145716. 4

**Question Number : 45 Question Id : 48558436430 Question Type : MCQ Option Shuffling : No Is Question Mandatory : No Calculator : None Response Time : N.A Think Time : N.A Minimum Instruction Time : 0**

**Correct Marks : 5 Wrong Marks : 1**

**Question Key Details :**

| Key           | Value |
|---------------|-------|
| Comprehension | Comp1 |

Read the given paragraph and answer the question:

Humans have 23 pairs of chromosomes. 22 pairs are exactly same in both males and females; these are the autosomes. A pair of X-chromosome are present in the female, whereas the presence of an X and Y chromosome are determinant of the male characteristic.

A number of disorders in human beings have been found to be associated with the inheritance of changed or altered genes or chromosomes. Broadly, genetic disorder may be grouped into two categories-Mendelian disorders and Chromosomal disorders.

A colour blind man marries a carrier woman. Choose the possible progeny outcome.

1. All sons are born colourblind, while 50% the daughter born will be normal.
2. All children (sons and daughters) are born colour blind.
3. All daughters are normal whereas 50% of the sons born will be colour blind.
4. 50% of daughters and 50% of sons born will be colour blind.

Options :

485584145717. 1  
485584145718. 2  
485584145719. 3  
485584145720. 4

Question Number : 45 Question Id : 48558436430 Question Type : MCQ Option Shuffling : No Is Question Mandatory : No Calculator : None Response Time : N.A Think Time : N.A Minimum Instruction Time : 0

Correct Marks : 5 Wrong Marks : 1

Question Key Details :

| Key           | Value |
|---------------|-------|
| Comprehension | Compl |

पुढे दिलेला परिच्छेद वाचून अचूक उत्तरे निवडा.

मानवात 23 गुणसूत्रांच्या जोड्या आहेत. 22 जोड्या स्त्री व पुरुषां मध्ये एक सारख अद्या असतात. त्यांना अलिंगी सूत्र असे म्हणतात. स्त्री मध्ये X-गुणसूत्र आणि एक Y-गुणसूत्र असतात. मानवाल अनेक विकृती जनुकांच्या किंवा गुणसूत्रांच्या बदला मुळे व त्यातील बदलेल्या घटकांची वंशागति झाल्यामुळे अढळतात. सर्वसाधारण पणे या जीनी विकृती दोन गटात विभागल्या जातात मॅडेलियन विकृती व गुणसूत्रीय विकृती.

वर्णाधता असलेल्या पुरुषाचा वाहक स्त्रीशी विवाह झाल्यावर खालील पैकी संतति कशा असतील?

1. सर्व मुलगे वर्णाधता असलेले तर मुली सामान्य.
2. सर्व संततिमध्ये वर्णाधता असेल (मुलगे व मुली).
3. सर्व मुली सामान्य आणि 50% मुलगे वर्णाधता दाखवतील.
4. 50% मुली 50% मुलगे वर्णाधता दाखवतील.

Options :

485584145717. 1  
485584145718. 2  
485584145719. 3  
485584145720. 4

Sub-Section Number :

3

Sub-Section Id :

4855842692

Question Shuffling Allowed :  
Is Section Default? :

No  
null

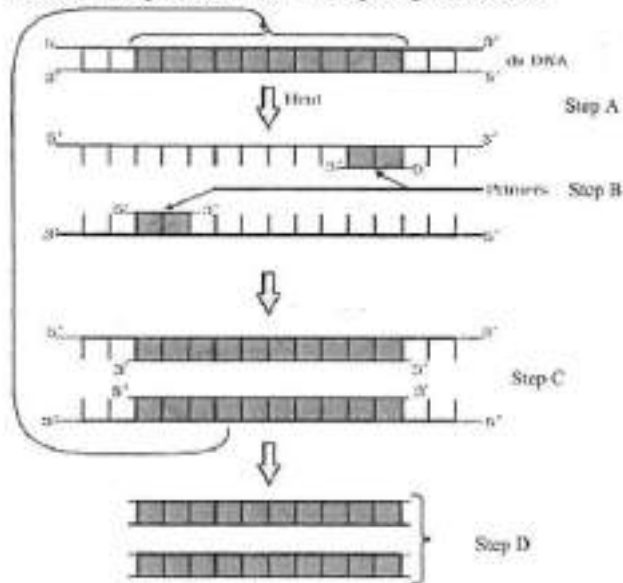
Question Number : 46 Question Id : 48558436431 Question Type : MCQ Option Shuffling : No Is Question Mandatory : No Calculator : None  
Response Time : N.A Think Time : N.A Minimum Instruction Time : 0

Correct Marks : 5 Wrong Marks : 1

Question Key Details :

| Key           | Value |
|---------------|-------|
| Comprehension | Comp2 |

Answer the questions from the figure given below:



If the reaction starts with one molecule of DNA, the number of cycles required to produce one billion amplified products is:

1. 8 cycles
2. 16 cycles
3. 30 cycles
4. 25 cycles

Options :

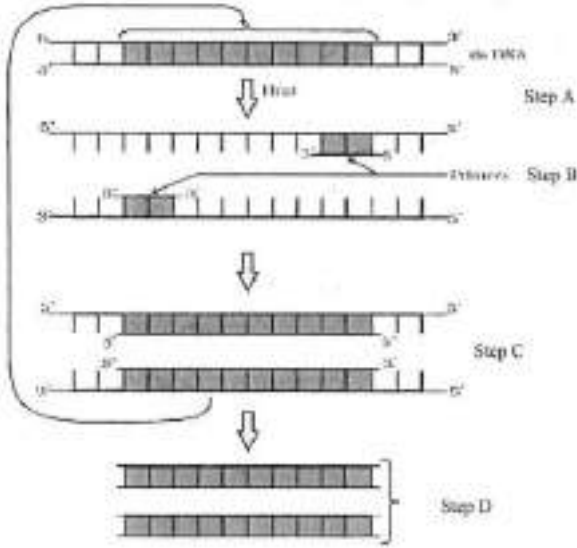
- 485584145721. 1
- 485584145722. 2
- 485584145723. 3
- 485584145724. 4

Question Number : 46 Question Id : 48558436431 Question Type : MCQ Option Shuffling : No Is Question Mandatory : No Calculator : None  
Response Time : N.A Think Time : N.A Minimum Instruction Time : 0

Correct Marks : 5 Wrong Marks : 1

Question Key Details :

| Key           | Value |
|---------------|-------|
| Comprehension | Comp2 |



जर ही प्रक्रिया एका DNA च्या रेणूनी सुरु झाली तर एक सहस्र दशलक्ष विशदीकरण उत्पादन करिता किती चक्र लागतील?

1. 8 चक्र
2. 16 चक्र
3. 30 चक्र
4. 25 चक्र

**Options :**

485584145721. 1  
 485584145722. 2  
 485584145723. 3  
 485584145724. 4

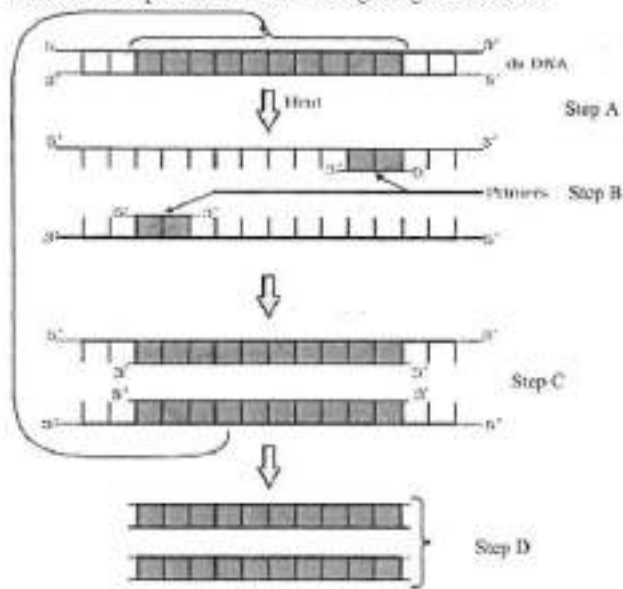
Question Number : 47 Question Id : 48558436432 Question Type : MCQ Option Shuffling : No Is Question Mandatory : No Calculator : None Response Time : N.A Think Time : N.A Minimum Instruction Time : 0

Correct Marks : 5 Wrong Marks : 1

Question Key Details :

| Key           | Value |
|---------------|-------|
| Comprehension | Comp2 |

Answer the questions from the figure given below:



'Taq' in *Taq* polymerase stands for:

1. *Thermal aqua*
2. *Thermal aquaticus*
3. *Thermas aqua*
4. *Thermus aquaticus*

Options :

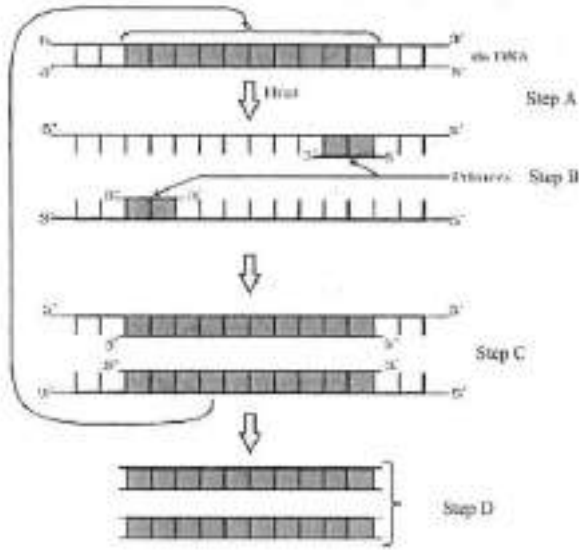
- 485584145725. 1
- 485584145726. 2
- 485584145727. 3
- 485584145728. 4

Question Number : 47 Question Id : 48558436432 Question Type : MCQ Option Shuffling : No Is Question Mandatory : No Calculator : None Response Time : N.A Think Time : N.A Minimum Instruction Time : 0

Correct Marks : 5 Wrong Marks : 1

Question Key Details :

| Key           | Value |
|---------------|-------|
| Comprehension | Comp2 |



'टाक' पॉलीमरेज नावात 'टाक' कशाला संबोधित करतो?

1. थर्मल ऍंका
2. खर्मल ऍंकेटिकस
3. थर्मस ऍंका
4. थर्मस ऍंकेटिकस

**Options :**

485584145725. 1  
 485584145726. 2  
 485584145727. 3  
 485584145728. 4

Question Number : 48 Question Id : 48558436433 Question Type : MCQ Option Shuffling : No Is Question Mandatory : No Calculator : None  
 Response Time : N.A Think Time : N.A Minimum Instruction Time : 0

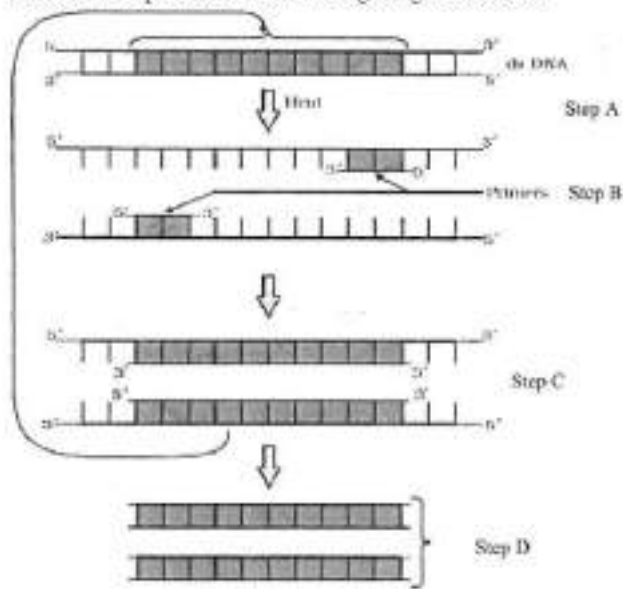
Correct Marks : 5 Wrong Marks : 1

Question Key Details :

| Key           | Value |
|---------------|-------|
| Comprehension | Comp2 |



Answer the questions from the figure given below:



*Taq* polymerase is the preferred DNA polymerase in PCR because :

1. It is obtained from a fast breeding bacteria.
2. It can bind with the primers efficiently.
3. It remains active during high temperature.
4. It has high turnover rate.

**Options :**

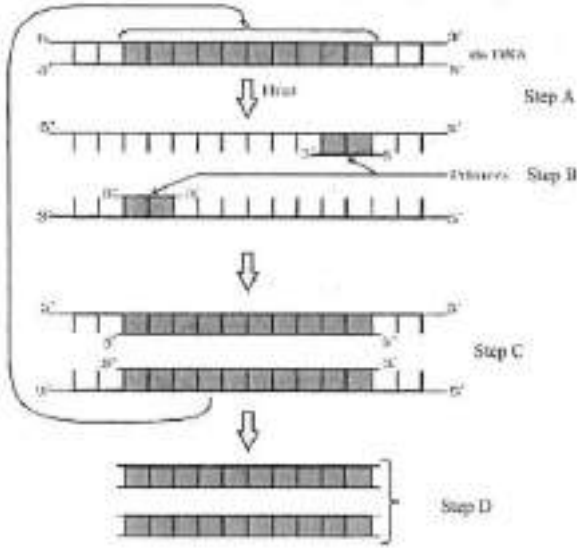
- 485584145729. 1
- 485584145730. 2
- 485584145731. 3
- 485584145732. 4

**Question Number : 48 Question Id : 48558436433 Question Type : MCQ Option Shuffling : No Is Question Mandatory : No Calculator : None Response Time : N.A Think Time : N.A Minimum Instruction Time : 0**

**Correct Marks : 5 Wrong Marks : 1**

**Question Key Details :**

| Key           | Value |
|---------------|-------|
| Comprehension | Comp2 |



ॢी सी अर प्रक्रियेत DNA पॉलिमरेज विकरल ऐवजी टाक पॉलीमरेज विकरलल अधिक पसंत करतात कारण:

1. ते जलद उत्पत्ती दाखवणाऱ्या जीवाणू पासून मिळवतात.
2. ते प्रायमरला अधिक कार्यक्षमतेने जोडले जाते.
3. अधिक तापमानात कार्य क्षम राहते.
4. त्याची उताढाल जास्त असल्याने.

**Options :**

- 485584145729. 1
- 485584145730. 2
- 485584145731. 3
- 485584145732. 4

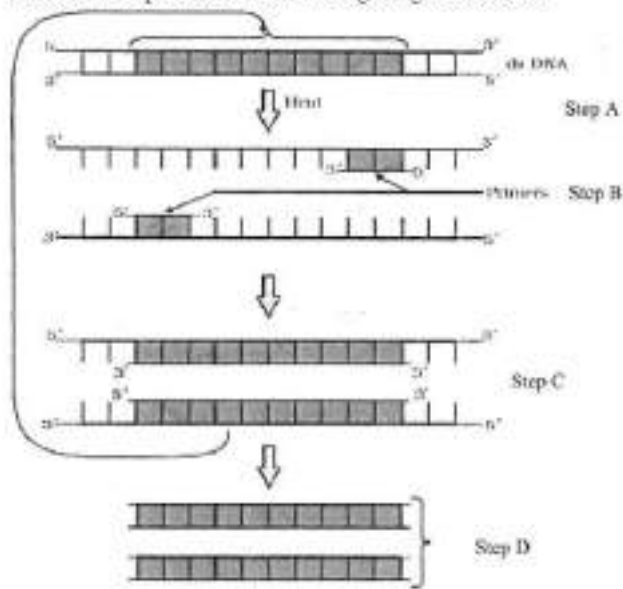
**Question Number :** 49 **Question Id :** 48558436434 **Question Type :** MCQ **Option Shuffling :** No **Is Question Mandatory :** No **Calculator :** None **Response Time :** N.A **Think Time :** N.A **Minimum Instruction Time :** 0

**Correct Marks :** 5 **Wrong Marks :** 1

**Question Key Details :**

| Key           | Value |
|---------------|-------|
| Comprehension | Comp2 |

Answer the questions from the figure given below:



The step 'D' in the figure depicts:

1. Region where the restriction enzyme cuts.
2. An important gene of interest
3. Primer joining region
4. Only amplified product

Options :

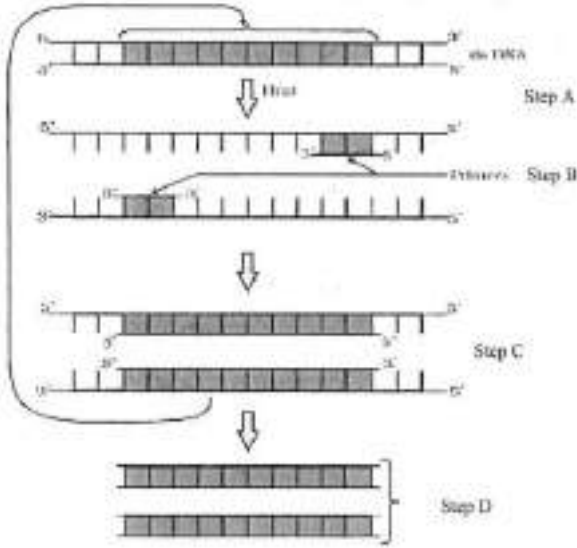
- 485584145733. 1
- 485584145734. 2
- 485584145735. 3
- 485584145736. 4

Question Number : 49 Question Id : 48558436434 Question Type : MCQ Option Shuffling : No Is Question Mandatory : No Calculator : None Response Time : N.A Think Time : N.A Minimum Instruction Time : 0

Correct Marks : 5 Wrong Marks : 1

Question Key Details :

| Key           | Value |
|---------------|-------|
| Comprehension | Comp2 |



खालील आकृतीत 'D' टप्पा कोणसा दाखवत आहे?

1. रेसट्रीक्शन विकराने कापलेली जागा
2. हवा असलेला महत्वाचा जीन
3. प्रायमरला जोडली जाणारी जागा
4. फक्त विशदीकरण केलेला उत्पाद

**Options :**

485584145733. 1  
 485584145734. 2  
 485584145735. 3  
 485584145736. 4

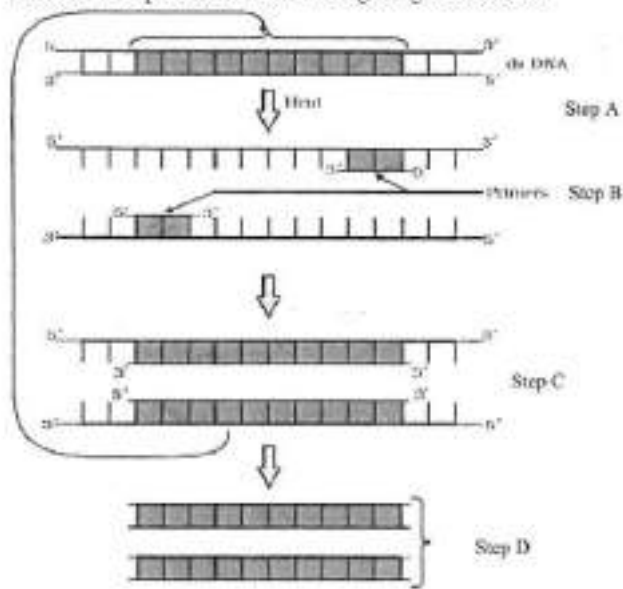
**Question Number : 50 Question Id : 48558436435 Question Type : MCQ Option Shuffling : No Is Question Mandatory : No Calculator : None Response Time : N.A Think Time : N.A Minimum Instruction Time : 0**

**Correct Marks : 5 Wrong Marks : 1**

**Question Key Details :**

| Key           | Value |
|---------------|-------|
| Comprehension | Comp2 |

Answer the questions from the figure given below:



The step 'B' in the figure is called as:

1. Termination
2. Extension
3. Annealing
4. Reannealing

Options :

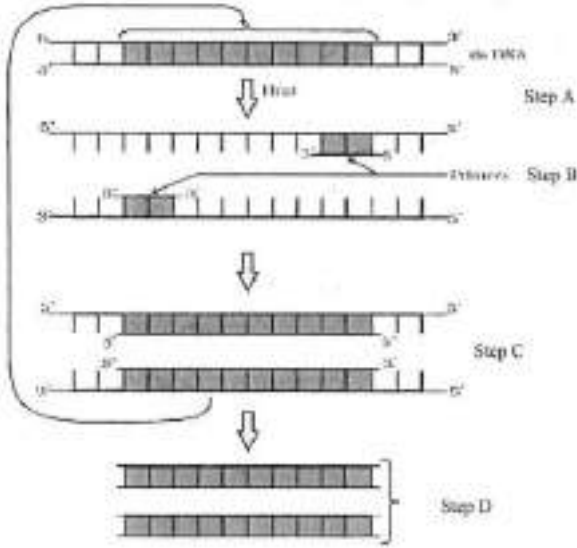
- 485584145737. 1
- 485584145738. 2
- 485584145739. 3
- 485584145740. 4

Question Number : 50 Question Id : 48558436435 Question Type : MCQ Option Shuffling : No Is Question Mandatory : No Calculator : None Response Time : N.A Think Time : N.A Minimum Instruction Time : 0

Correct Marks : 5 Wrong Marks : 1

Question Key Details :

| Key           | Value |
|---------------|-------|
| Comprehension | Comp2 |



पुढील आकृतीवरून 'B' टप्पा काय दर्शवत आहे?

1. समाप्ती (टर्मिनेशन) टर्मिनेशन
2. विस्तारणे
3. ऍनिलिंग (जोडणे)
4. रिऍनिलिंग (परत जोडणे)

Options :

485584145737. 1  
 485584145738. 2  
 485584145739. 3  
 485584145740. 4

## Business Studies

|                               |           |
|-------------------------------|-----------|
| Group Number :                | 3         |
| Group Id :                    | 485584823 |
| Group Maximum Duration :      | 45        |
| Group Minimum Duration :      | 45        |
| Show Attended Group? :        | No        |
| Edit Attended Group? :        | No        |
| Break time :                  | 0         |
| Group Marks :                 | 200       |
| Is this Group for Examiner? : | No        |
| Examiner permission :         | Cant View |
| Show Progress Bar? :          | No        |

## Business Studies

|                                       |           |
|---------------------------------------|-----------|
| Section Id :                          | 485584947 |
| Section Number :                      | 1         |
| Section type :                        | Online    |
| Mandatory or Optional :               | Mandatory |
| Number of Questions :                 | 50        |
| Number of Questions to be attempted : | 40        |
| Section Marks :                       | 200       |

Enable Mark as Answered Mark for Review and Clear Response : Yes  
Maximum Instruction Time : 0  
Sub-Section Number : 1  
Sub-Section Id : 4855842693  
Question Shuffling Allowed : Yes  
Is Section Default? : null

Question Number : 51 Question Id : 48558436436 Question Type : MCQ Option Shuffling : No Is Question Mandatory : No Calculator : None  
Response Time : N.A Think Time : N.A Minimum Instruction Time : 0

Correct Marks : 5 Wrong Marks : 1

Question Key Details :

| Key           | Value |
|---------------|-------|
| Comprehension | MCQ   |

Which of the following is not an importance of management ?

1. Management is group activity
2. Management creates a dynamic organization
3. Management helps in the development of society
4. Management increases efficiency

Options :

485584145741. 1  
485584145742. 2  
485584145743. 3  
485584145744. 4

Question Number : 51 Question Id : 48558436436 Question Type : MCQ Option Shuffling : No Is Question Mandatory : No Calculator : None  
Response Time : N.A Think Time : N.A Minimum Instruction Time : 0

Correct Marks : 5 Wrong Marks : 1

Question Key Details :

| Key           | Value |
|---------------|-------|
| Comprehension | MCQ   |

खालीलपैकी कोणते व्यवस्थापनाचे महत्त्व नाही?

1. व्यवस्थापन हे एक सामुहिक कार्य आहे.
2. व्यवस्थापन क्रियाशील संघटना निर्माण करते.
3. व्यवस्थापन समाजाच्या विकासाला हातभार लावते.
4. व्यवस्थापन कार्यक्षमता वाढविते.

Options :

485584145741. 1  
485584145742. 2  
485584145743. 3  
485584145744. 4

Question Number : 52 Question Id : 48558436437 Question Type : MCQ Option Shuffling : No Is Question Mandatory : No Calculator : None  
Response Time : N.A Think Time : N.A Minimum Instruction Time : 0

Correct Marks : 5 Wrong Marks : 1

Question Key Details :

| Key           | Value |
|---------------|-------|
| Comprehension | MCQ   |

Mc.Donalds, the fast food giant made major changes in its menu to be able to survive in Indian market. Which feature of management is reflected in above case ?

1. Management is an intangible force
2. Management is a dynamic function
3. Management is all pervasive
4. Management is multidimensional

**Options :**

485584145745. 1  
485584145746. 2  
485584145747. 3  
485584145748. 4

**Question Number : 52 Question Id : 48558436437 Question Type : MCQ Option Shuffling : No Is Question Mandatory : No Calculator : None Response Time : N.A Think Time : N.A Minimum Instruction Time : 0**

**Correct Marks : 5 Wrong Marks : 1**

**Question Key Details :**

| Key           | Value |
|---------------|-------|
| Comprehension | MCQ   |

भारतीय बाजारत टिकून राहण्यासाठी मॅकडोनाल्ड्स या फास्ट फूड क्षेत्रातील अग्रगण्य कंपनीने आपल्या पदार्थांच्या यादीमध्ये मोठे बदल केले.

वरील उदाहरणात व्यवस्थापनाचे कोणते वैशिष्ट्य प्रतिबिंबित होते.

1. व्यवस्थापन ही एक अमूर्त ताकद आहे.
2. व्यवस्थापन हे एक गतीशील कार्य आहे.
3. व्यवस्थापन सर्वव्यापी आहे.
4. व्यवस्थापन बहुआयामी आहे.

**Options :**

485584145745. 1  
485584145746. 2  
485584145747. 3  
485584145748. 4

**Question Number : 53 Question Id : 48558436438 Question Type : MCQ Option Shuffling : No Is Question Mandatory : No Calculator : None Response Time : N.A Think Time : N.A Minimum Instruction Time : 0**

**Correct Marks : 5 Wrong Marks : 1**

**Question Key Details :**

| Key           | Value |
|---------------|-------|
| Comprehension | MCQ   |

"Planning is an Activity which enables a manager to look ahead and anticipate changes." Identify the point of Importance of Planning.

1. Planning reduces the risk of uncertainty
2. Planning facilitates decision making
3. Planning establishes standards for controlling
4. Planning provide directions



**Options :**

485584145749. 1  
485584145750. 2  
485584145751. 3  
485584145752. 4

**Question Number : 53 Question Id : 48558436438 Question Type : MCQ Option Shuffling : No Is Question Mandatory : No Calculator : None Response Time : N.A Think Time : N.A Minimum Instruction Time : 0**

**Correct Marks : 5 Wrong Marks : 1**

**Question Key Details :**

| Key           | Value |
|---------------|-------|
| Comprehension | MCQ   |

नियोजन कार्यामुळे व्यवस्थापकाला भविष्याचा अंदाज बांधणे आणि बदल ओळखण्यासाठी मदत होते.

नियोजनाचे महत्त्व सांगणारे विधान ओळखा.

1. नियोजनामुळे अनिश्चिततेचा धोका कमी होता.
2. नियोजनामुळे निर्णय घेणे सोपे होते.
3. नियोजनात नियंत्रणाची मानके ठरविली जातात.
4. नियोजन दिशा दाखविते.

**Options :**

485584145749. 1  
485584145750. 2  
485584145751. 3  
485584145752. 4

**Question Number : 54 Question Id : 48558436439 Question Type : MCQ Option Shuffling : No Is Question Mandatory : No Calculator : None Response Time : N.A Think Time : N.A Minimum Instruction Time : 0**

**Correct Marks : 5 Wrong Marks : 1**

**Question Key Details :**

| Key           | Value |
|---------------|-------|
| Comprehension | MCQ   |

Ravi is working as supervisor with Zinc limited. Identify the level of management at which Ravi is employed.

1. Top Management
2. Middle Management
3. Operational Management
4. Apex Management

**Options :**

485584145753. 1  
485584145754. 2  
485584145755. 3  
485584145756. 4

**Question Number : 54 Question Id : 48558436439 Question Type : MCQ Option Shuffling : No Is Question Mandatory : No Calculator : None Response Time : N.A Think Time : N.A Minimum Instruction Time : 0**

**Correct Marks : 5 Wrong Marks : 1**

**Question Key Details :**

| Key           | Value |
|---------------|-------|
| Comprehension | MCQ   |

रती ड्रिंक लिमिटेड सह पर्यवेक्षक म्हणून काम करत आहे. रती कोणत्या स्तरावर कार्यरत आहे ते ओळखा.

1. शीर्ष व्यवस्थापन
2. मध्यम व्यवस्थापन
3. ऑपरेशनल मॅनेजमेंट
4. शिखर व्यवस्थापन

**Options :**

485584145753. 1  
485584145754. 2  
485584145755. 3  
485584145756. 4

**Question Number : 55 Question Id : 48558436440 Question Type : MCQ Option Shuffling : No Is Question Mandatory : No Calculator : None Response Time : N.A Think Time : N.A Minimum Instruction Time : 0**

**Correct Marks : 5 Wrong Marks : 1**

**Question Key Details :**

| Key           | Value |
|---------------|-------|
| Comprehension | MCQ   |

In this type of Organizational structure, the cost may increase since there may be a duplication of activities across products. Identify the organizational structure.

1. Functional Structure
2. Delegated Structure
3. Divisional Structure
4. Informal Structure

**Options :**

485584145757. 1  
485584145758. 2  
485584145759. 3  
485584145760. 4

**Question Number : 55 Question Id : 48558436440 Question Type : MCQ Option Shuffling : No Is Question Mandatory : No Calculator : None Response Time : N.A Think Time : N.A Minimum Instruction Time : 0**

**Correct Marks : 5 Wrong Marks : 1**

**Question Key Details :**

| Key           | Value |
|---------------|-------|
| Comprehension | MCQ   |

या प्रकारच्या संघटनात्मक रचनेमध्ये कार्याच्या पुनरावृत्तीमुळे सर्व उत्पादनांची किंमत वाढण्याची शक्यता असते.

1. कार्यात्मक रचना
2. प्रातिनिधीक रचना
3. विभागीय रचना
4. अनौपचारिक रचना

**Options :**

485584145757. 1  
485584145758. 2

485584145759. 3  
485584145760. 4

Question Number : 56 Question Id : 48558436441 Question Type : MCQ Option Shuffling : No Is Question Mandatory : No Calculator : None  
Response Time : N.A Think Time : N.A Minimum Instruction Time : 0

Correct Marks : 5 Wrong Marks : 1

Question Key Details :

| Key           | Value |
|---------------|-------|
| Comprehension | MCQ   |

Divisional Structure is based on \_\_\_\_\_.

1. Product Lines
2. Functional Lines
3. Informal Basis
4. Occupational Specialization

Options :

485584145761. 1  
485584145762. 2  
485584145763. 3  
485584145764. 4

Question Number : 56 Question Id : 48558436441 Question Type : MCQ Option Shuffling : No Is Question Mandatory : No Calculator : None  
Response Time : N.A Think Time : N.A Minimum Instruction Time : 0

Correct Marks : 5 Wrong Marks : 1

Question Key Details :

| Key           | Value |
|---------------|-------|
| Comprehension | MCQ   |

विभागीय रचना \_\_\_\_\_ वर आधारित आहे.

1. उत्पादन मालिका / साखळी
2. कार्यात्मक साखळी
3. अनौपचारिक आधार
4. व्यावसायिक विशेषीकरण

Options :

485584145761. 1  
485584145762. 2  
485584145763. 3  
485584145764. 4

Question Number : 57 Question Id : 48558436442 Question Type : MCQ Option Shuffling : No Is Question Mandatory : No Calculator : None  
Response Time : N.A Think Time : N.A Minimum Instruction Time : 0

Correct Marks : 5 Wrong Marks : 1

Question Key Details :

| Key           | Value |
|---------------|-------|
| Comprehension | MCQ   |

\_\_\_\_\_ can be delegated.

1. Responsibility
2. Authority
3. Accountability
4. Answerability

**Options :**

485584145765. 1  
485584145766. 2  
485584145767. 3  
485584145768. 4

**Question Number : 57 Question Id : 48558436442 Question Type : MCQ Option Shuffling : No Is Question Mandatory : No Calculator : None Response Time : N.A Think Time : N.A Minimum Instruction Time : 0**

**Correct Marks : 5 Wrong Marks : 1**

**Question Key Details :**

| Key           | Value |
|---------------|-------|
| Comprehension | MCQ   |

\_\_\_\_\_ विभागी करणे शक्य आहे.

1. कर्तव्य
2. अधिकार
3. जबाबदारी
4. उत्तरदायित्व

**Options :**

485584145765. 1  
485584145766. 2  
485584145767. 3  
485584145768. 4

**Question Number : 58 Question Id : 48558436443 Question Type : MCQ Option Shuffling : No Is Question Mandatory : No Calculator : None Response Time : N.A Think Time : N.A Minimum Instruction Time : 0**

**Correct Marks : 5 Wrong Marks : 1**

**Question Key Details :**

| Key           | Value |
|---------------|-------|
| Comprehension | MCQ   |

\_\_\_\_\_ Test is a measure of individuals potential for learning new skills.

1. Trade tests
2. Personality tests
3. Aptitude tests
4. Intelligence tests

**Options :**

485584145769. 1  
485584145770. 2  
485584145771. 3  
485584145772. 4

Question Number : 58 Question Id : 48558436443 Question Type : MCQ Option Shuffling : No Is Question Mandatory : No Calculator : None Response Time : N.A Think Time : N.A Minimum Instruction Time : 0

Correct Marks : 5 Wrong Marks : 1

Question Key Details :

| Key           | Value |
|---------------|-------|
| Comprehension | MCQ   |

\_\_\_\_\_ हे व्यक्तीची नवीन कौशल्ये शिकण्याच्या क्षमतेचे प्रमाण आहे.

1. व्यापार चाचणी
2. व्यक्तिमत्त्व चाचणी
3. अभियोग्यता चाचणी
4. बुद्धिमत्ता चाचणी

Options :

485584145769. 1  
485584145770. 2  
485584145771. 3  
485584145772. 4

Question Number : 59 Question Id : 48558436444 Question Type : MCQ Option Shuffling : No Is Question Mandatory : No Calculator : None Response Time : N.A Think Time : N.A Minimum Instruction Time : 0

Correct Marks : 5 Wrong Marks : 1

Question Key Details :

| Key           | Value |
|---------------|-------|
| Comprehension | MCQ   |

"Many reputed organizations keep a database of unsolicited applications in their offices based on which a list of job-seekers can be prepared and can be screened to fill the vacancies as they arise". Identify the source referred of recruitment above.

1. Direct Recruitment
2. Campus Recruitment
3. Labour Contractors
4. Casual Callers

Options :

485584145773. 1  
485584145774. 2  
485584145775. 3  
485584145776. 4

Question Number : 59 Question Id : 48558436444 Question Type : MCQ Option Shuffling : No Is Question Mandatory : No Calculator : None Response Time : N.A Think Time : N.A Minimum Instruction Time : 0

Correct Marks : 5 Wrong Marks : 1

Question Key Details :

| Key           | Value |
|---------------|-------|
| Comprehension | MCQ   |

बऱ्याच ढोठ्या संघटना त्यांचा कार्यालयातील अनाहूत अर्जांची माहिती (Database) जतन करून ठेवतात ज्या आधारे नोकरीच्या शोधात असलेल्यांची यादी तयार करणे, तसेच गरजेनुसार त्यांची छाननी करून रिक्त पदे भरणे शक्य होते.

वर नमूद केलेल्या नियुक्तीचा प्रकार ओळखा.

1. थेट भरती
2. प्रांगण (campus) भरती
3. कामगार कंत्राटदार
4. अनौपचारिक फोन करणारे

**Options :**

485584145773. 1  
485584145774. 2  
485584145775. 3  
485584145776. 4

**Question Number : 60 Question Id : 48558436445 Question Type : MCQ Option Shuffling : No Is Question Mandatory : No Calculator : None Response Time : N.A Think Time : N.A Minimum Instruction Time : 0**

**Correct Marks : 5 Wrong Marks : 1**

**Question Key Details :**

| Key           | Value |
|---------------|-------|
| Comprehension | MCQ   |

It involves shifting of an employee from one job to another, one department to another or from one shift to another, without a substantive change in the responsibilities and status of an employee. It is known as \_\_\_\_\_.

1. Training
2. Transfer
3. Promotion
4. Development

**Options :**

485584145777. 1  
485584145778. 2  
485584145779. 3  
485584145780. 4

**Question Number : 60 Question Id : 48558436445 Question Type : MCQ Option Shuffling : No Is Question Mandatory : No Calculator : None Response Time : N.A Think Time : N.A Minimum Instruction Time : 0**

**Correct Marks : 5 Wrong Marks : 1**

**Question Key Details :**

| Key           | Value |
|---------------|-------|
| Comprehension | MCQ   |

यामध्ये कर्मचाऱ्यांच्या जबाबदाऱ्या आणि प्रतिष्ठेमध्ये विशेष बदल न करता त्याची एका कामालून दुसऱ्या कामावर, एका विभागातून दुसऱ्या विभागात किंवा एका शिफ्टमधून दुसऱ्या शिफ्टमध्ये हालविण्याचा अंतर्भाव होतो.

1. प्रशिक्षण
2. बदली
3. बढती
4. विकास

**Options :**

485584145777. 1  
485584145778. 2  
485584145779. 3  
485584145780. 4

**Question Number : 61 Question Id : 48558436446 Question Type : MCQ Option Shuffling : No Is Question Mandatory : No Calculator : None Response Time : N.A Think Time : N.A Minimum Instruction Time : 0**

**Correct Marks : 5 Wrong Marks : 1**

**Question Key Details :**

| Key           | Value |
|---------------|-------|
| Comprehension | MCQ   |

Organizational barriers to communication do not include ;

1. Rules and regulations
2. Status
3. Organizational Policy
4. Lack of attention

**Options :**

485584145781. 1  
485584145782. 2  
485584145783. 3  
485584145784. 4

**Question Number : 61 Question Id : 48558436446 Question Type : MCQ Option Shuffling : No Is Question Mandatory : No Calculator : None Response Time : N.A Think Time : N.A Minimum Instruction Time : 0**

**Correct Marks : 5 Wrong Marks : 1**

**Question Key Details :**

| Key           | Value |
|---------------|-------|
| Comprehension | MCQ   |

संप्रेषणातील संघटनात्मक अडथळ्यांमध्ये याचा समावेश होत नाही.

1. नियम
2. प्रतिष्ठा
3. संघटनात्मक धोरण
4. अवधानाचा अभाव

**Options :**

485584145781. 1  
485584145782. 2

485584145783. 3  
485584145784. 4

Question Number : 62 Question Id : 48558436447 Question Type : MCQ Option Shuffling : No Is Question Mandatory : No Calculator : None  
Response Time : N.A Think Time : N.A Minimum Instruction Time : 0

Correct Marks : 5 Wrong Marks : 1

Question Key Details :

| Key           | Value |
|---------------|-------|
| Comprehension | MCQ   |

\_\_\_\_\_ means giving more autonomy and power to subordinates. This feeling contributes positively to the use of skills and talents in the job performance.

1. Employee Recognition Programme
2. Employee Empowerment
3. Status
4. Job Security

Options :

485584145785. 1  
485584145786. 2  
485584145787. 3  
485584145788. 4

Question Number : 62 Question Id : 48558436447 Question Type : MCQ Option Shuffling : No Is Question Mandatory : No Calculator : None  
Response Time : N.A Think Time : N.A Minimum Instruction Time : 0

Correct Marks : 5 Wrong Marks : 1

Question Key Details :

| Key           | Value |
|---------------|-------|
| Comprehension | MCQ   |

कनिष्ठानां अधिक स्वायत्तता व अधिकार देणे म्हणजे \_\_\_\_\_ होय. या भावनेमुळे काम करताना कौशल्ये व उपजत क्षमतांचा वापर करण्यावर सकारात्मक प्रभाव पडतो.

1. कर्मचारी प्रत्याभिज्ञा (Recognition) योजना
2. कर्मचारी सबलीकरण
3. प्रतिष्ठा
4. रोजगार सुरक्षितता

Options :

485584145785. 1  
485584145786. 2  
485584145787. 3  
485584145788. 4

Question Number : 63 Question Id : 48558436448 Question Type : MCQ Option Shuffling : No Is Question Mandatory : No Calculator : None  
Response Time : N.A Think Time : N.A Minimum Instruction Time : 0

Correct Marks : 5 Wrong Marks : 1

Question Key Details :

| Key           | Value |
|---------------|-------|
| Comprehension | MCQ   |



Which type of leader does not believe in the use of power unless it is absolutely essential ?

1. Free-rein / Laissez faire leader
2. Democratic leader
3. Autocratic leader
4. Participative leader

**Options :**

485584145789. 1  
485584145790. 2  
485584145791. 3  
485584145792. 4

**Question Number : 63 Question Id : 48558436448 Question Type : MCQ Option Shuffling : No Is Question Mandatory : No Calculator : None Response Time : N.A Think Time : N.A Minimum Instruction Time : 0**

**Correct Marks : 5 Wrong Marks : 1**

**Question Key Details :**

| Key           | Value |
|---------------|-------|
| Comprehension | MCQ   |

कोणत्या प्रकारच्या नेतृत्वाचा अभावीच गरज पडल्याशिवाय अधिकाराचा वापर करू नये यावर विश्वास असतो.

1. मुक्त लगाम नेता (Free-rein leader)
2. लोकशाही
3. हुकूमशाही
4. सहभागात्मक

**Options :**

485584145789. 1  
485584145790. 2  
485584145791. 3  
485584145792. 4

**Question Number : 64 Question Id : 48558436449 Question Type : MCQ Option Shuffling : No Is Question Mandatory : No Calculator : None Response Time : N.A Think Time : N.A Minimum Instruction Time : 0**

**Correct Marks : 5 Wrong Marks : 1**

**Question Key Details :**

| Key           | Value |
|---------------|-------|
| Comprehension | MCQ   |

The incentive is offered over and above the wages/salary to the employees is \_\_\_\_\_.

1. Project Sharing
2. Pay or Allowances
3. Perquisites
4. Bonus

**Options :**

485584145793. 1  
485584145794. 2  
485584145795. 3  
485584145796. 4

Question Number : 64 Question Id : 48558436449 Question Type : MCQ Option Shuffling : No Is Question Mandatory : No Calculator : None Response Time : N.A Think Time : N.A Minimum Instruction Time : 0

Correct Marks : 5 Wrong Marks : 1

Question Key Details :

| Key           | Value |
|---------------|-------|
| Comprehension | MCQ   |

कर्मचार्यांना त्यांच्या पगारा व्यतिरिक्त दिले जाणारे प्रेरक वेतन म्हणजे \_\_\_\_\_ होय.

1. प्रकल्प सहभाग
2. वेतन किंवा भत्ते
3. विशेषाधिकार (Perquisites)
4. अधिदाभांश (Bonus)

Options :

- 485584145793. 1
- 485584145794. 2
- 485584145795. 3
- 485584145796. 4

Question Number : 65 Question Id : 48558436450 Question Type : MCQ Option Shuffling : No Is Question Mandatory : No Calculator : None Response Time : N.A Think Time : N.A Minimum Instruction Time : 0

Correct Marks : 5 Wrong Marks : 1

Question Key Details :

| Key           | Value |
|---------------|-------|
| Comprehension | MCQ   |

Ashok went to a shop to buy a tooth paste. The shopkeeper showed him different varieties of toothpaste available in his shop. Ashok took one of them but had an allergy after using it. He later on checked that the product had crossed its expiry date. Which responsibility has Ashok ignored as a customer?

1. Read labels carefully for information such as net weight, price, expiry date etc.
2. Assert that you get a fair deal.
3. Ask for a cash memo.
4. Avoid waste, littering and contributing to pollution.

Options :

- 485584145797. 1
- 485584145798. 2
- 485584145799. 3
- 485584145800. 4

Question Number : 65 Question Id : 48558436450 Question Type : MCQ Option Shuffling : No Is Question Mandatory : No Calculator : None Response Time : N.A Think Time : N.A Minimum Instruction Time : 0

Correct Marks : 5 Wrong Marks : 1

Question Key Details :

| Key           | Value |
|---------------|-------|
| Comprehension | MCQ   |

अशोक एका दुकानात दूधपेस्ट विकत घेण्यासाठी गेला. दुकानदाराने वापरत्यानंतर त्याला वेगळी ऍलर्जी दाखवली. नंतर त्यांनी तपासले की उत्पादनाची एक्सपायरी डेट ओलांडली आहे. अशोकाने ग्राहक म्हणून कोणत्या जबाबदारीकडे दुर्लक्ष केले आहे?

1. निव्वळ वजन, किंमत, काराबाह्यता तारीख इत्यादी माहितीसाठी लेबल काळजीपूर्वक वाचा.
2. तुम्हाला वाजवी सौदा मिळेल असे ठामपणे सांगा
3. रोख मेमोसाठी विचारा
4. कचरा, कचरा आणि प्रदूषणास हातभार लावणे टाळा

**Options :**

485584145797. 1  
485584145798. 2  
485584145799. 3  
485584145800. 4

**Question Number : 66 Question Id : 48558436451 Question Type : MCQ Option Shuffling : No Is Question Mandatory : No Calculator : None Response Time : N.A Think Time : N.A Minimum Instruction Time : 0**

**Correct Marks : 5 Wrong Marks : 1**

**Question Key Details :**

| Key           | Value |
|---------------|-------|
| Comprehension | MCQ   |

It is mandatory for the manufactures to provide information such as ingredients, date of manufacture, price, directions for use, price etc. The consumer right highlighted here is-

1. Right to safety
2. Right to be informed
3. Right to be heard
4. Right to Consumer Education

**Options :**

485584145801. 1  
485584145802. 2  
485584145803. 3  
485584145804. 4

**Question Number : 66 Question Id : 48558436451 Question Type : MCQ Option Shuffling : No Is Question Mandatory : No Calculator : None Response Time : N.A Think Time : N.A Minimum Instruction Time : 0**

**Correct Marks : 5 Wrong Marks : 1**

**Question Key Details :**

| Key           | Value |
|---------------|-------|
| Comprehension | MCQ   |

उत्पादकारांना घटक, उत्पादनाची तारीख, किंमत, वापरासाठी दिशानिर्देश, किंमत इत्यादी माहिती देणे बंधनकारक आहे. येथे हायलाइट केलेला ग्राहक हक्क आहे-

1. सुरक्षिततेचा अधिकार
2. माहिती मिळण्याचा अधिकार
3. ऐकण्याचा अधिकार
4. ग्राहक शिक्षणाचा अधिकार

**Options :**

485584145801. 1  
485584145802. 2  
485584145803. 3  
485584145804. 4

**Question Number : 67 Question Id : 48558436452 Question Type : MCQ Option Shuffling : No Is Question Mandatory : No Calculator : None Response Time : N.A Think Time : N.A Minimum Instruction Time : 0**

**Correct Marks : 5 Wrong Marks : 1**

**Question Key Details :**

| Key           | Value |
|---------------|-------|
| Comprehension | MCQ   |

Net working capital is computed as \_\_\_\_\_.

1. Gross current assets
2. Gross current assets - total debt
3. Current assets - External debt
4. Current assets - Current liabilities

**Options :**

485584145805. 1  
485584145806. 2  
485584145807. 3  
485584145808. 4

**Question Number : 67 Question Id : 48558436452 Question Type : MCQ Option Shuffling : No Is Question Mandatory : No Calculator : None Response Time : N.A Think Time : N.A Minimum Instruction Time : 0**

**Correct Marks : 5 Wrong Marks : 1**

**Question Key Details :**

| Key           | Value |
|---------------|-------|
| Comprehension | MCQ   |

निष्पन्न खेळते भांडवल \_\_\_\_\_ असे मोजले जाते.

1. ढोबळ चल मालमत्ता
2. ढोबळ चल मालमत्ता - एकूण कर्ज
3. चल मालमत्ता - बाह्य कर्ज
4. चल मालमत्ता - चल देयता

**Options :**

485584145805. 1  
485584145806. 2  
485584145807. 3  
485584145808. 4

**Question Number : 68 Question Id : 48558436453 Question Type : MCQ Option Shuffling : No Is Question Mandatory : No Calculator : None Response Time : N.A Think Time : N.A Minimum Instruction Time : 0**

**Correct Marks : 5 Wrong Marks : 1**

**Question Key Details :**

| Key           | Value |
|---------------|-------|
| Comprehension | MCQ   |

\_\_\_\_\_ of a company affects both the profitability and the financial risk.

1. Working Capital
2. Capital Structure
3. Fixed Capital
4. Dividend decision

**Options :**

485584145809. 1  
485584145810. 2  
485584145811. 3  
485584145812. 4

**Question Number : 68 Question Id : 48558436453 Question Type : MCQ Option Shuffling : No Is Question Mandatory : No Calculator : None Response Time : N.A Think Time : N.A Minimum Instruction Time : 0**

**Correct Marks : 5 Wrong Marks : 1**

**Question Key Details :**

| Key           | Value |
|---------------|-------|
| Comprehension | MCQ   |

कंपनीच्या \_\_\_\_\_ चा फायदेशीरपणा आणि आर्थिक धोका या दोन्हीवरही परिणाम होतो.

1. खेळते भांडवल
2. भांडवल रचना
3. स्थिर भांडवल
4. लाभांश निर्णय

**Options :**

485584145809. 1  
485584145810. 2  
485584145811. 3  
485584145812. 4

**Question Number : 69 Question Id : 48558436454 Question Type : MCQ Option Shuffling : No Is Question Mandatory : No Calculator : None Response Time : N.A Think Time : N.A Minimum Instruction Time : 0**

**Correct Marks : 5 Wrong Marks : 1**

**Question Key Details :**

| Key           | Value |
|---------------|-------|
| Comprehension | MCQ   |

Identify the decision in which a company has to choose where to invest its resources so that it is able to earn the maximum possible return for their investors.

1. Working capital decision
2. Financing decision
3. Dividend decision
4. Investment decision

**Options :**

485584145813. 1  
485584145814. 2  
485584145815. 3

485584145816.4

Question Number : 69 Question Id : 48558436454 Question Type : MCQ Option Shuffling : No Is Question Mandatory : No Calculator : None  
Response Time : N.A Think Time : N.A Minimum Instruction Time : 0  
Correct Marks : 5 Wrong Marks : 1

Question Key Details :

| Key           | Value |
|---------------|-------|
| Comprehension | MCQ   |

कंपनीची संसाधने कोठे गुंतवायची ते निवडावचे आहे तो निर्णय ओळखा जेणेकरून ती त्यांच्या गुंतवणूकदारांना जास्तीत जास्त परतावा मिळवू शकेल.

1. वॉकिंग कॅपिटल निर्णय
2. वित्तपुरवठा निर्णय
3. लाभांश निर्णय
4. गुंतवणुकीचा निर्णय

Options :

485584145813. 1  
485584145814. 2  
485584145815. 3  
485584145816. 4

Question Number : 70 Question Id : 48558436455 Question Type : MCQ Option Shuffling : No Is Question Mandatory : No Calculator : None  
Response Time : N.A Think Time : N.A Minimum Instruction Time : 0  
Correct Marks : 5 Wrong Marks : 1

Question Key Details :

| Key           | Value |
|---------------|-------|
| Comprehension | MCQ   |

Select the term that indicates Principles of Management are not rigid prescriptions.

1. Human behaviour
2. Mainly behaviour
3. Contingent
4. Flexible

Options :

485584145817. 1  
485584145818. 2  
485584145819. 3  
485584145820. 4

Question Number : 70 Question Id : 48558436455 Question Type : MCQ Option Shuffling : No Is Question Mandatory : No Calculator : None  
Response Time : N.A Think Time : N.A Minimum Instruction Time : 0  
Correct Marks : 5 Wrong Marks : 1

Question Key Details :

| Key           | Value |
|---------------|-------|
| Comprehension | MCQ   |

व्यवस्थापनाची तत्त्वे कठोर प्रिस्क्रिप्शन नाहीत हे दर्शविणारी संज्ञा निवडा.

1. मानवी वर्तन
2. प्रेमळ वर्तन
3. आकस्मिक
4. लवचिक

**Options :**

485584145817. 1  
485584145818. 2  
485584145819. 3  
485584145820. 4

**Question Number : 71 Question Id : 48558436456 Question Type : MCQ Option Shuffling : No Is Question Mandatory : No Calculator : None Response Time : N.A Think Time : N.A Minimum Instruction Time : 0**

**Correct Marks : 5 Wrong Marks : 1**

**Question Key Details :**

| Key           | Value |
|---------------|-------|
| Comprehension | MCQ   |

" People and materials must be in suitable places at appropriate time for maximum efficiency."

Application of this principle will lead to:

1. Hindrance in the activities of business/factory
2. Increased productivity and efficiency
3. No discrimination against anyone
4. Justice and kindness in the behaviour of managers.

**Options :**

485584145821. 1  
485584145822. 2  
485584145823. 3  
485584145824. 4

**Question Number : 71 Question Id : 48558436456 Question Type : MCQ Option Shuffling : No Is Question Mandatory : No Calculator : None Response Time : N.A Think Time : N.A Minimum Instruction Time : 0**

**Correct Marks : 5 Wrong Marks : 1**

**Question Key Details :**

| Key           | Value |
|---------------|-------|
| Comprehension | MCQ   |

"जास्तीत जास्त कार्यक्षमतेसाठी लोक आणि साहित्य योग्य वेळी योग्य ठिकाणी असले पाहिजे,"  
या तत्त्वाच्या वापरामुळे पुढील गोष्टी घडतील.

1. व्यवसाय/कारखान्याच्या कामात अडथळा
2. उत्पादकता आणि कार्यक्षमता वाढली
3. कोणाशीही भेदभाव नाही
4. व्यवस्थापकांच्या वर्तनात न्याय आणि दयाळूपणा.

**Options :**

485584145821. 1  
485584145822. 2  
485584145823. 3  
485584145824. 4

**Question Number : 72 Question Id : 48558436457 Question Type : MCQ Option Shuffling : No Is Question Mandatory : No Calculator : None Response Time : N.A Think Time : N.A Minimum Instruction Time : 0**

**Correct Marks : 5 Wrong Marks : 1**

**Question Key Details :**

| Key           | Value |
|---------------|-------|
| Comprehension | MCQ   |

In the principle of Scalar Chain, the shortest route for communication in case of emergency is called:

1. Gang Plank
2. Special route
3. Formal route
4. Protocol

**Options :**

485584145825. 1  
485584145826. 2  
485584145827. 3  
485584145828. 4

**Question Number : 72 Question Id : 48558436457 Question Type : MCQ Option Shuffling : No Is Question Mandatory : No Calculator : None Response Time : N.A Think Time : N.A Minimum Instruction Time : 0**

**Correct Marks : 5 Wrong Marks : 1**

**Question Key Details :**

| Key           | Value |
|---------------|-------|
| Comprehension | MCQ   |

स्केलर चेनच्या तत्त्वानुसार, आणीबाणीच्या परिस्थितीत संवादासाठी सर्वात लहान मार्ग म्हणतात: संबंधित आहेत.

1. टोळी फळी
2. विशेष मार्ग
3. औपचारिक मार्ग
4. प्रोटोकॉल

**Options :**

485584145825. 1  
485584145826. 2  
485584145827. 3  
485584145828. 4

**Question Number : 73 Question Id : 48558436458 Question Type : MCQ Option Shuffling : No Is Question Mandatory : No Calculator : None Response Time : N.A Think Time : N.A Minimum Instruction Time : 0**

**Correct Marks : 5 Wrong Marks : 1**

**Question Key Details :**

| Key           | Value |
|---------------|-------|
| Comprehension | MCQ   |



If any party is not satisfied by the order of District Commission, then appeal against such order can be made to state commission within a period of \_\_\_\_\_ days from the date of order.

1. Forty five
2. Thirty
3. Sixty
4. Forty

**Options :**

485584145829. 1  
485584145830. 2  
485584145831. 3  
485584145832. 4

**Question Number : 73 Question Id : 48558436458 Question Type : MCQ Option Shuffling : No Is Question Mandatory : No Calculator : None Response Time : N.A Think Time : N.A Minimum Instruction Time : 0**

**Correct Marks : 5 Wrong Marks : 1**

**Question Key Details :**

| Key           | Value |
|---------------|-------|
| Comprehension | MCQ   |

जर एखादा पक्ष जिल्हा आयोगाच्या निर्णयाने असमाधानी असेल तर अशा आदेशाविरुद्ध तो आदेश दिल्याच्या तारखेपासून \_\_\_\_\_ दिवसांच्या आत राज्य आयोगाकडे दाद मागता येते.

1. पंचेचाळीस
2. तीस
3. साठ
4. चाळीस

**Options :**

485584145829. 1  
485584145830. 2  
485584145831. 3  
485584145832. 4

**Question Number : 74 Question Id : 48558436459 Question Type : MCQ Option Shuffling : No Is Question Mandatory : No Calculator : None Response Time : N.A Think Time : N.A Minimum Instruction Time : 0**

**Correct Marks : 5 Wrong Marks : 1**

**Question Key Details :**

| Key           | Value |
|---------------|-------|
| Comprehension | MCQ   |

Functions of Entrepreneurship in relation to economic Development do not include :-

1. Contribution to GDP
2. Capital Formation
3. Generation of Employment
4. Generation of Business opportunities only for same business

**Options :**

485584145833. 1  
485584145834. 2

485584145835. 3  
485584145836. 4

Question Number : 74 Question Id : 48558436459 Question Type : MCQ Option Shuffling : No Is Question Mandatory : No Calculator : None  
Response Time : N.A Think Time : N.A Minimum Instruction Time : 0

Correct Marks : 5 Wrong Marks : 1

Question Key Details :

| Key           | Value |
|---------------|-------|
| Comprehension | MCQ   |

आर्थिक विकासासंदर्भातील उद्योजकांच्या कार्यामध्ये याचा समावेश होत नाही.

1. सकल देशांतर्गत उत्पन्नास मदत (GDP)
2. भांडवल निर्मिती
3. रोजगार निर्मिती
4. फक्त एकाच प्रकारच्या व्यापारासाठी व्यवसाय संधीची निर्मिती

Options :

485584145833. 1  
485584145834. 2  
485584145835. 3  
485584145836. 4

Question Number : 75 Question Id : 48558436460 Question Type : MCQ Option Shuffling : No Is Question Mandatory : No Calculator : None  
Response Time : N.A Think Time : N.A Minimum Instruction Time : 0

Correct Marks : 5 Wrong Marks : 1

Question Key Details :

| Key           | Value |
|---------------|-------|
| Comprehension | MCQ   |

The person who combines all factors of production, who takes risk to earn profit is called entrepreneur.  
Entrepreneur is \_\_\_\_\_.

1. Subject
2. Verb
3. Outcome
4. Process

Options :

485584145837. 1  
485584145838. 2  
485584145839. 3  
485584145840. 4

Question Number : 75 Question Id : 48558436460 Question Type : MCQ Option Shuffling : No Is Question Mandatory : No Calculator : None  
Response Time : N.A Think Time : N.A Minimum Instruction Time : 0

Correct Marks : 5 Wrong Marks : 1

Question Key Details :

| Key           | Value |
|---------------|-------|
| Comprehension | MCQ   |

जी व्यक्ती उत्पादनाच्या सर्व घटकांचे एकत्रिकरण करते, तसेच नफा मिळविण्यासाठी धोका पत्करते अशा व्यक्तीला उद्योजक म्हणतात.

उद्योजक \_\_\_\_\_ आहे.

1. विषय
2. क्रियापद
3. फलित / निष्पत्ती
4. प्रक्रिया

**Options :**

485584145837. 1  
485584145838. 2  
485584145839. 3  
485584145840. 4

**Question Number : 76 Question Id : 48558436461 Question Type : MCQ Option Shuffling : No Is Question Mandatory : No Calculator : None Response Time : N.A Think Time : N.A Minimum Instruction Time : 0**

**Correct Marks : 5 Wrong Marks : 1**

**Question Key Details :**

| Key           | Value |
|---------------|-------|
| Comprehension | MCQ   |

Zicon Ltd. has recently set a target of becoming market leader in sale of smart TV. Arrange the steps in the process of planning which will follow after setting of targets :

- A. Identifying alternative courses of action
- B. Implementing the plan
- C. Evaluating alternative courses
- D. Selecting an alternative
- E. Developing premises

Choose the correct answer from the options given below :

1. E, A, C, D, B
2. E, C, D, B, A
3. B, C, E, A, D
4. E, A, B, D, C

**Options :**

485584145841. 1  
485584145842. 2  
485584145843. 3  
485584145844. 4

**Question Number : 76 Question Id : 48558436461 Question Type : MCQ Option Shuffling : No Is Question Mandatory : No Calculator : None Response Time : N.A Think Time : N.A Minimum Instruction Time : 0**

**Correct Marks : 5 Wrong Marks : 1**

**Question Key Details :**

| Key           | Value |
|---------------|-------|
| Comprehension | MCQ   |

झायकॉन लिमिटेड या कंपनीने नुकतेच स्मार्ट टी. व्ही. विक्रीमध्ये बाजारातील प्रथम क्रमांकाची कंपनी होण्याचे ध्येय ठरविले आहे. ध्येयनिश्चिती नंतर नियोजन प्रक्रियेतील टप्पे योग्य क्रमाने लावा :

- A. पर्यायी मार्ग शोधणे
- B. योजनेची अंमलबजावणी
- C. पर्यायी मार्गाचे मूल्यमापन
- D. पर्यायाची निवड करणे
- E. पायाभूत तत्त्व विकसित करणे

खालील पर्यायांमधून योग्य पर्याय निवडा :

- 1. E, A, C, D, B
- 2. E, C, D, B, A
- 3. B, C, E, A, D
- 4. E, A, B, D, C

**Options :**

- 485584145841. 1
- 485584145842. 2
- 485584145843. 3
- 485584145844. 4

**Question Number : 77 Question Id : 48558436462 Question Type : MCQ Option Shuffling : No Is Question Mandatory : No Calculator : None Response Time : N.A Think Time : N.A Minimum Instruction Time : 0**

**Correct Marks : 5 Wrong Marks : 1**

**Question Key Details :**

| Key           | Value |
|---------------|-------|
| Comprehension | MCQ   |

Arrange the correct sequence of steps in Organizing process.

- A. Identification and division of work
- B. Establishing authority and reporting relationships
- C. Assignment of Duties
- D. Departmentalization

Choose the correct answer from the options given below :

- 1. B, C, A, D
- 2. D, A, B, C
- 3. C, B, D, A
- 4. A, D, C, B

**Options :**

- 485584145845. 1
- 485584145846. 2
- 485584145847. 3
- 485584145848. 4

**Question Number : 77 Question Id : 48558436462 Question Type : MCQ Option Shuffling : No Is Question Mandatory : No Calculator : None Response Time : N.A Think Time : N.A Minimum Instruction Time : 0**

**Correct Marks : 5 Wrong Marks : 1**

**Question Key Details :**

| Key           | Value |
|---------------|-------|
| Comprehension | MCQ   |

संघटन प्रक्रियेतील टप्पे योग्य क्रमाने लावा.

- कार्याची ओळख आणि विभागणी
- अधिकार आणि वृत्तांत संबंध प्रस्थापित करणे
- कार्य नेमून देणे
- विभाग निर्मिती

खालील पैकी योग्य पर्याय निवडा :

- B, C, A, D
- D, A, B, C
- C, B, D, A
- A, D, C, B

**Options :**

485584145845. 1  
485584145846. 2  
485584145847. 3  
485584145848. 4

**Question Number : 78 Question Id : 48558436463 Question Type : MCQ Option Shuffling : No Is Question Mandatory : No Calculator : None Response Time : N.A Think Time : N.A Minimum Instruction Time : 0**

**Correct Marks : 5 Wrong Marks : 1**

**Question Key Details :**

| Key           | Value |
|---------------|-------|
| Comprehension | MCQ   |

Mr. Prateek, the Production Manager of Zim Ltd. has selected the right workforce for his department. He decides the following steps which he would adopt in the process of staffing. Arrange them in correct sequence

- Performance Appraisal
- Compensation
- Placement and Orientation
- Promotion and Career Planning
- Training and development

Choose the correct answer from the options given below :

- C, A, E, D, B
- B, C, D, A, E
- D, A, B, E, C
- C, E, A, D, B

**Options :**

485584145849. 1  
485584145850. 2  
485584145851. 3  
485584145852. 4

**Question Number : 78 Question Id : 48558436463 Question Type : MCQ Option Shuffling : No Is Question Mandatory : No Calculator : None Response Time : N.A Think Time : N.A Minimum Instruction Time : 0**

**Correct Marks : 5 Wrong Marks : 1**

**Question Key Details :**

| Key           | Value |
|---------------|-------|
| Comprehension | MCQ   |

झीम लिमिटेड मधील उत्पादन व्यवस्थापक श्री. प्रतीक याने त्याच्या विभागासाठी योग्य मनुष्यबळाची निवड केली आहे. त्याने कर्मचारी नेमणूक प्रक्रियेमधील खालील टप्प्यांचा वापर करण्याचे ठरविले आहे. ते योग्य क्रमाने लावा.

- A. कामाचे मूल्यमापन
- B. भरपाई
- C. नेमणूक व अभिमुखता
- D. बढती व करिअर नियोजन
- E. प्रशिक्षण व विकास

खालील पैकी योग्य पर्याय निवडा :

- 1. C, A, E, D, B
- 2. B, C, D, A, E
- 3. D, A, B, E, C
- 4. C, E, A, D, B

**Options :**

- 485584145849. 1
- 485584145850. 2
- 485584145851. 3
- 485584145852. 4

**Question Number : 79 Question Id : 48558436464 Question Type : MCQ Option Shuffling : No Is Question Mandatory : No Calculator : None Response Time : N.A Think Time : N.A Minimum Instruction Time : 0**

**Correct Marks : 5 Wrong Marks : 1**

**Question Key Details :**

| Key           | Value |
|---------------|-------|
| Comprehension | MCQ   |

Arrange the steps of trading procedure of stock exchange in the correct sequence

- A. Delivering the shares
- B. Placing an Order
- C. Opening a Demat Account
- D. Execution of the order
- E. Settlement of transaction

Choose the correct answer from the options given below :

- 1. C, A, B, D, E
- 2. C, B, D, A, E
- 3. B, A, D, C, E
- 4. B, C, A, E, D

**Options :**

- 485584145853. 1
- 485584145854. 2
- 485584145855. 3
- 485584145856. 4

**Question Number : 79 Question Id : 48558436464 Question Type : MCQ Option Shuffling : No Is Question Mandatory : No Calculator : None Response Time : N.A Think Time : N.A Minimum Instruction Time : 0**

**Correct Marks : 5 Wrong Marks : 1**

**Question Key Details :**

| Key | Value |
|-----|-------|
|-----|-------|

स्टॉक एक्सचेंजमधील खरेदी-विक्री प्रक्रियेचे टप्पे योग्य क्रमाने लावा.

- भाग
- मागणीची नोंद
- डी-मॅट खाते उघडणे
- मागणीची कार्यवाही
- व्यवहाराची पूर्तता

खालील पैकी योग्य पर्याय निवडा :

- C, A, B, D, E
- C, B, D, A, E
- B, A, D, A, E
- B, C, A, E, D

**Options :**

485584145853. 1  
485584145854. 2  
485584145855. 3  
485584145856. 4

**Question Number : 80 Question Id : 48558436465 Question Type : MCQ Option Shuffling : No Is Question Mandatory : No Calculator : None Response Time : N.A Think Time : N.A Minimum Instruction Time : 0**

**Correct Marks : 5 Wrong Marks : 1**

**Question Key Details :**

| Key           | Value |
|---------------|-------|
| Comprehension | MCQ   |

Arrange the following in proper sequence.

- Critical Point control and management by exception
- Performance should be measured in an objective and reliable manner
- Standards are set in both Quantitative as well as Qualitative terms
- Reveal the deviation between actual and desired results
- Taking corrective action

Choose the correct answer from the options given below :

- A, B, C, D, E
- E, D, C, B, A
- C, B, D, A, E
- A, C, B, E, D

**Options :**

485584145857. 1  
485584145858. 2  
485584145859. 3  
485584145860. 4

**Question Number : 80 Question Id : 48558436465 Question Type : MCQ Option Shuffling : No Is Question Mandatory : No Calculator : None Response Time : N.A Think Time : N.A Minimum Instruction Time : 0**

**Correct Marks : 5 Wrong Marks : 1**

**Question Key Details :**

| Key | Value |
|-----|-------|
|-----|-------|

खालील विधाने योग्य क्रमाने लावा.

- महत्त्वाच्या भागाचे नियंत्रण आणि अपवादात्मक व्यवस्थापन
- कामाचे वस्तुनिष्ठ आणि विश्वासार्ह पद्धतीने मापन
- संख्यात्मक आणि गुणात्मक अशा दोन्ही बाबतीतील मानके ठरवणे
- आधी निर्धारित केलेल्या व वास्तविक परिणामांमधील विचलन दाखविणे
- उपयोजनात्मक कृती करणे

खालील पैकी योग्य पर्याय निवडा :

- A, B, C, D, E
- E, D, C, B, A
- C, B, D, A, E
- A, C, B, E, D

**Options :**

485584145857. 1  
485584145858. 2  
485584145859. 3  
485584145860. 4

**Question Number : 81 Question Id : 48558436466 Question Type : MCQ Option Shuffling : No Is Question Mandatory : No Calculator : None Response Time : N.A Think Time : N.A Minimum Instruction Time : 0**

**Correct Marks : 5 Wrong Marks : 1**

**Question Key Details :**

| Key           | Value |
|---------------|-------|
| Comprehension | MCQ   |

Identify the correct combinations of Principles of Management.

- Division of work and motion study
- Equity and scalar chain
- Authority and Responsibility and Method Study
- Discipline and Order
- Initiative and Fatigue Study

Choose the correct answer from the options given below :

- B and D Only
- A and D Only
- B and E Only
- C and E Only

**Options :**

485584145861. 1  
485584145862. 2  
485584145863. 3  
485584145864. 4

**Question Number : 81 Question Id : 48558436466 Question Type : MCQ Option Shuffling : No Is Question Mandatory : No Calculator : None Response Time : N.A Think Time : N.A Minimum Instruction Time : 0**

**Correct Marks : 5 Wrong Marks : 1**

**Question Key Details :**

| Key | Value |
|-----|-------|
|-----|-------|



व्यवस्थापनाच्या तत्वांचा योग्य संयोग ओळखा.

- A. कामाची विभागणी व हालचाल अभ्यास
- B. समानता व अधिकार साखळ
- C. अधिकार-जबाबदारी व पद्धत अभ्यास
- D. शिस्त व सुव्यवस्था
- E. पुढाकार व धकवा अभ्यास

योग्य पर्याय निवडा :

- 1. B आणि D फक्त
- 2. A आणि D फक्त
- 3. B आणि E फक्त
- 4. C आणि E फक्त

**Options :**

- 485584145861. 1
- 485584145862. 2
- 485584145863. 3
- 485584145864. 4

**Question Number : 82 Question Id : 48558436467 Question Type : MCQ Option Shuffling : No Is Question Mandatory : No Calculator : None Response Time : N.A Think Time : N.A Minimum Instruction Time : 0**

**Correct Marks : 5 Wrong Marks : 1**

**Question Key Details :**

| Key           | Value |
|---------------|-------|
| Comprehension | MCQ   |

Which of the following are the sources of Recruitment for a newly set organization?

- A. Unskilled workers required for unskilled work provided by labour contractor
- B. Promotion to the higher post
- C. Websites such as www.naukri.com & jobstreet etc.
- D. Recommendations of employees
- E. Recruitment from educational institutions

Choose the correct answer from the options given below :

- 1. B Only
- 2. A, C and D Only
- 3. A, C & E Only
- 4. E Only

**Options :**

- 485584145865. 1
- 485584145866. 2
- 485584145867. 3
- 485584145868. 4

**Question Number : 82 Question Id : 48558436467 Question Type : MCQ Option Shuffling : No Is Question Mandatory : No Calculator : None Response Time : N.A Think Time : N.A Minimum Instruction Time : 0**

**Correct Marks : 5 Wrong Marks : 1**

**Question Key Details :**

| Key           | Value |
|---------------|-------|
| Comprehension | MCQ   |

खालीलपैकी भरतीसाठीचे कोणते स्रोत नव्याने स्थापन झालेल्या संघटनेसाठी आहेत.

- अकुशल कामासाठी आवश्यक असलेले अकुशल कामगार कंत्राटदाराकडून उपलब्ध होणे.
- वरच्या पदावर बढती.
- www.naukri.com व jobtostreet यासारखी संकेतस्थळे
- कर्मचाऱ्यांकडून आलेल्या शिफारशी
- शैक्षणिक संस्थांमधून केलेली नेमणूक / भरती

योग्य पर्याय निवडा :

- B फक्त
- A, C व D फक्त
- A, C, D व E फक्त
- E फक्त

Options :

485584145865. 1
485584145866. 2
485584145867. 3
485584145868. 4

Question Number : 83 Question Id : 48558436468 Question Type : MCQ Option Shuffling : No Is Question Mandatory : No Calculator : None Response Time : N.A Think Time : N.A Minimum Instruction Time : 0

Correct Marks : 5 Wrong Marks : 1

Question Key Details :

| Key           | Value |
|---------------|-------|
| Comprehension | MCQ   |

Which of the following statement/statements are not related with elements of Directing.

- Every manager in the organization supervise his/her subordinates
- It stimulates people to take up work voluntarily
- The process of influencing the behavior of people by making them strive voluntarily towards achievements of organizational goals
- Effective communication with subordinates
- Coordinating different functions of management

Choose the correct answer from the options given below :

- E Only
- A, B and D Only
- D Only
- B and C Only

Options :

485584145869. 1
485584145870. 2
485584145871. 3
485584145872. 4

Question Number : 83 Question Id : 48558436468 Question Type : MCQ Option Shuffling : No Is Question Mandatory : No Calculator : None Response Time : N.A Think Time : N.A Minimum Instruction Time : 0

Correct Marks : 5 Wrong Marks : 1

**Question Key Details :**

| Key           | Value |
|---------------|-------|
| Comprehension | MCQ   |

खालीलपैकी कोणते विधान/विधाने निर्देशनाच्या प्रमुख घटकांशी संबंधित नाहीत.

- A. संघटनेतील प्रत्येक व्यवस्थापक त्याच्या तिच्या कनिष्ठांवर लक्ष ठेवतो/ठेवते
- B. हे लोकांना स्वेच्छेने काम करण्यासाठी प्रेरित करते
- C. लोकांना स्वेच्छेने संघटनात्मक ध्येय, उद्दिष्ट्ये प्राप्त करण्यासाठी उद्द्युक्त करून त्यांच्या वर्तणुकीवर प्रभाव टाकण्याची प्रक्रिया
- D. कनिष्ठांबरोबर परिणामकारक संप्रेषण
- E. व्यवस्थापनाच्या विविध कार्यांमध्ये समन्वय साधणे

खालील पर्यायांमधून योग्य पर्याय निवडा :

- 1. E फक्त
- 2. A, B आणि D फक्त
- 3. D फक्त
- 4. B आणि C फक्त

**Options :**

- 485584145869. 1
- 485584145870. 2
- 485584145871. 3
- 485584145872. 4

Question Number : 84 Question Id : 48558436469 Question Type : MCQ Option Shuffling : No Is Question Mandatory : No Calculator : None Response Time : N.A Think Time : N.A Minimum Instruction Time : 0

Correct Marks : 5 Wrong Marks : 1

**Question Key Details :**

| Key           | Value |
|---------------|-------|
| Comprehension | MCQ   |

Which of the following is not related with "Critical point of control" concept?

- A. Control should focus on key result areas
- B. KRA's can never be set as critical points
- C. It is very easy and economical to keep a check on each and every activity of organization.
- D. If anything goes wrong at the critical points the entire organization suffers
- E. In manufacturing organization, an increase of 5% in labour cost may be more troublesome than a 15% increase in postal charges

Choose the correct answer from the options given below :

- 1. A Only
- 2. C & B Only
- 3. C Only
- 4. D & E Only

**Options :**

- 485584145873. 1
- 485584145874. 2
- 485584145875. 3
- 485584145876. 4

Question Number : 84 Question Id : 48558436469 Question Type : MCQ Option Shuffling : No Is Question Mandatory : No Calculator : None Response Time : N.A Think Time : N.A Minimum Instruction Time : 0

Correct Marks : 5 Wrong Marks : 1

Question Key Details :

| Key           | Value |
|---------------|-------|
| Comprehension | MCQ   |

खालीलपैकी काय "नियंत्रणाचा गंभीर मुद्दा" या संकल्पनेशी संबंधित नाही.

- नियंत्रणामध्ये महत्त्वाच्या परिणाम क्षेत्रांवर लक्ष द्यायला हवे.
- KRA (Key Result Areas) कधीही गंभीर मुद्दा असू नये.
- संघटनेच्या प्रत्येक क्रियेवर लक्ष ठेवणे खूप सोपे आणि कमी खर्चिक आहे.
- महत्त्वाच्या टप्प्यांवरील विश्लेषण चूकल्यास संपूर्ण संघटनेवर वाईट परिणाम होतो.
- उत्पादन निर्मिती संघटनेमध्ये टपाल खर्चामध्ये होणाऱ्या 15% वाढीपेक्षा कामगार खर्चात झालेली 5% वाढ जास्त त्रासदायक असू शकते.

योग्य पर्याय निवडा :

- A फक्त
- C आणि B फक्त
- C फक्त
- D आणि E फक्त

Options :

485584145873. 1
485584145874. 2
485584145875. 3
485584145876. 4

Question Number : 85 Question Id : 48558436470 Question Type : MCQ Option Shuffling : No Is Question Mandatory : No Calculator : None Response Time : N.A Think Time : N.A Minimum Instruction Time : 0

Correct Marks : 5 Wrong Marks : 1

Question Key Details :

| Key           | Value |
|---------------|-------|
| Comprehension | MCQ   |

What are the aspects of feasibility analysis under Entrepreneurship Development ?

- Technical Aspect
- Economic Aspect
- Financial Aspect
- Commercial Aspect
- Political Aspect

Choose the correct answer from the options given below :

- A, B and C Only
- A, B, D and E Only
- A and B Only
- A, B, C and D Only

Options :

485584145877. 1
485584145878. 2
485584145879. 3
485584145880. 4

Question Number : 85 Question Id : 48558436470 Question Type : MCQ Option Shuffling : No Is Question Mandatory : No Calculator : None Response Time : N.A Think Time : N.A Minimum Instruction Time : 0

Correct Marks : 5 Wrong Marks : 1

Question Key Details :

| Key           | Value |
|---------------|-------|
| Comprehension | MCQ   |

उद्योजकता विकासामध्ये सुसाध्य विश्लेषणाचे कोणते पैलू घेतात ?

- तांत्रिक पैलू
- आर्थिक पैलू
- वित्तीय पैलू
- वाणिज्यिक / व्यापारी पैलू
- राजकीय पैलू

योग्य पर्याय निवडा :

- A, B आणि C फक्त
- A, B, D आणि E फक्त
- A आणि B फक्त
- A, B, C आणि D फक्त

Options :

485584145877. 1
485584145878. 2
485584145879. 3
485584145880. 4

Question Number : 86 Question Id : 48558436471 Question Type : MCQ Option Shuffling : No Is Question Mandatory : No Calculator : None Response Time : N.A Think Time : N.A Minimum Instruction Time : 0

Correct Marks : 5 Wrong Marks : 1

Question Key Details :

| Key           | Value |
|---------------|-------|
| Comprehension | MCQ   |

Match List I with List II

| LIST I |                           | LIST II |                            |
|--------|---------------------------|---------|----------------------------|
| A.     | Economic environment      | I.      | Legislations Passed        |
| B.     | Social environment        | II.     | Stock market Indices       |
| C.     | Technological environment | III.    | New Methods and Techniques |
| D.     | Legal environment         | IV.     | Traditions                 |

Choose the correct answer from the options given below:

- A-IV, B-III, C-II, D-I
- A-II, B-IV, C-III, D-I
- A-II, B-III, C-IV, D-I
- A-II, B-I, C-III, D-IV

Options :

485584145881. 1
485584145882. 2
485584145883. 3

Question Number : 86 Question Id : 48558436471 Question Type : MCQ Option Shuffling : No Is Question Mandatory : No Calculator : None  
Response Time : N.A Think Time : N.A Minimum Instruction Time : 0  
Correct Marks : 5 Wrong Marks : 1

Question Key Details :

| Key           | Value |
|---------------|-------|
| Comprehension | MCQ   |

जोड्या जुळवा

| LIST I |                            | LIST II |                      |
|--------|----------------------------|---------|----------------------|
| A.     | आर्थिक परिस्थिती           | I.      | मंजूर केलेले कायदे   |
| B.     | सामाजिक परिस्थिती          | II.     | भाग बाजार निर्देशक   |
| C.     | तंत्रज्ञानसंबंधी परिस्थिती | III.    | नवीन पद्धती व तंत्रे |
| D.     | कायदेबाह्य परिस्थिती       | IV.     | परिष्कार             |

योग्य पर्याय निवडा:

1. A-IV, B-III, C-II, D-I
2. A-II, B-IV, C-III, D-I
3. A-II, B-III, C-IV, D-I
4. A-II, B-I, C-III, D-IV

Options :

485584145881. 1  
485584145882. 2  
485584145883. 3  
485584145884. 4

Question Number : 87 Question Id : 48558436472 Question Type : MCQ Option Shuffling : No Is Question Mandatory : No Calculator : None  
Response Time : N.A Think Time : N.A Minimum Instruction Time : 0  
Correct Marks : 5 Wrong Marks : 1

Question Key Details :

| Key           | Value |
|---------------|-------|
| Comprehension | MCQ   |

Match List I with List II

| LIST I |            | LIST II |                       |
|--------|------------|---------|-----------------------|
| A.     | Objectives | I.      | General Statements    |
| B.     | Strategy   | II.     | Routine steps         |
| C.     | Policy     | III.    | Comprehensive plan    |
| D.     | Procedure  | IV.     | End point of planning |

Choose the correct answer from the options given below:

1. A-IV, B-III, C-II, D-I
2. A-IV, B-II, C-III, D-I
3. A-IV, B-I, C-III, D-II
4. A-IV, B-III, C-I, D-II

Options :

485584145885. 1  
485584145886. 2  
485584145887. 3

Question Number : 87 Question Id : 48558436472 Question Type : MCQ Option Shuffling : No Is Question Mandatory : No Calculator : None  
Response Time : N.A Think Time : N.A Minimum Instruction Time : 0

Correct Marks : 5 Wrong Marks : 1

Question Key Details :

| Key           | Value |
|---------------|-------|
| Comprehension | MCQ   |

जोड्या जुळवा

| LIST I |             | LIST II |                       |
|--------|-------------|---------|-----------------------|
| A.     | उद्दिष्ट्ये | I.      | सर्वसाधारण विधाने     |
| B.     | योजना       | II.     | नियमित कृती           |
| C.     | धोरण        | III.    | सर्वसमावेशक योजना     |
| D.     | पद्धती      | IV.     | नियोजनाचा अंतिम टप्पा |

योग्य पर्याय निवडा:

1. A-IV, B-III, C-II, D-I
2. A-IV, B-II, C-III, D-I
3. A-IV, B-I, C-III, D-II
4. A-IV, B-III, C-I, D-II

Options :

485584145885. 1  
485584145886. 2  
485584145887. 3  
485584145888. 4

Question Number : 88 Question Id : 48558436473 Question Type : MCQ Option Shuffling : No Is Question Mandatory : No Calculator : None  
Response Time : N.A Think Time : N.A Minimum Instruction Time : 0

Correct Marks : 5 Wrong Marks : 1

Question Key Details :

| Key           | Value |
|---------------|-------|
| Comprehension | MCQ   |

Match List I with List II

| LIST I<br>(Controlling Process) |                                     | LIST II<br>(Related Concept) |  |
|---------------------------------|-------------------------------------|------------------------------|--|
| A.                              | Analysing deviations                | I.                           | It demands managerial attention                                    |
| B.                              | Taking corrective action            | II.                          | It becomes easy when quantitative terms are used                   |
| C.                              | Comparison of standard with actuals | III.                         | To determine acceptable range of deviations                        |
| D.                              | Setting performance standards       | IV.                          | Serves as benchmarks towards which an organization strives to work |

Choose the correct answer from the options given below:

1. A-I, B-III, C-II, D-IV
2. A-III, B-I, C-II, D-IV
3. A-III, B-II, C-I, D-IV
4. A-IV, B-III, C-II, D-I

Options :

485584145889. 1  
485584145890. 2  
485584145891. 3  
485584145892. 4

Question Number : 88 Question Id : 48558436473 Question Type : MCQ Option Shuffling : No Is Question Mandatory : No Calculator : None  
Response Time : N.A Think Time : N.A Minimum Instruction Time : 0

Correct Marks : 5 Wrong Marks : 1

Question Key Details :

| Key           | Value |
|---------------|-------|
| Comprehension | MCQ   |

जोड्या जुळवा

| LIST I<br>(नियंत्रण प्रक्रिया) |                         | LIST II<br>(संबंधित संकल्पना) |   |
|--------------------------------|-------------------------|-------------------------------|---|
| A.                             | विश्लेषण विचलन          | I.                            | यासाठी व्यवस्थापकीय अवधानाची आवश्यकता असते                      |
| B.                             | उपयोजनात्मक कृती करणे   | II.                           | संख्यात्मक संज्ञा वापरल्यावर हे सोपे होते                       |
| C.                             | मानके व वास्तवाशी तुलना | III.                          | समाधानकारक विचलनाची कक्षा ठरविणे                                |
| D.                             | कार्य मानके ठरविणे      | IV.                           | संघटना ज्यासाठी कार्य करत आहे त्यासंबंधी प्रमाण म्हणून काम करते |

योग्य पर्याय निवडा:

1. A-I, B-III, C-II, D-IV
2. A-III, B-I, C-II, D-IV
3. A-III, B-II, C-I, D-IV
4. A-IV, B-III, C-II, D-I

Options :

485584145889. 1  
485584145890. 2  
485584145891. 3  
485584145892. 4

Question Number : 89 Question Id : 48558436474 Question Type : MCQ Option Shuffling : No Is Question Mandatory : No Calculator : None  
Response Time : N.A Think Time : N.A Minimum Instruction Time : 0

Correct Marks : 5 Wrong Marks : 1

Question Key Details :

| Key           | Value |
|---------------|-------|
| Comprehension | MCQ   |



Match List I with List II

| LIST I |                             | LIST II |                   |
|--------|-----------------------------|---------|-------------------|
| A.     | Interest Coverage Ratio     | I.      | Rate of return    |
| B.     | Choice of Technique         | II.     | Fixed Capital     |
| C.     | Credit Allowed              | III.    | Capital structure |
| D.     | Capital budgeting decisions | IV.     | Working Capital   |

Choose the correct answer from the options given below:

1. A-II, B-III, C-IV, D-I
2. A-III, B-II, C-I, D-IV
3. A-III, B-II, C-IV, D-I
4. A-II, B-IV, C-III, D-I

Options :

485584145893. 1  
485584145894. 2  
485584145895. 3  
485584145896. 4

Question Number : 89 Question Id : 48558436474 Question Type : MCQ Option Shuffling : No Is Question Mandatory : No Calculator : None  
Response Time : N.A Think Time : N.A Minimum Instruction Time : 0

Correct Marks : 5 Wrong Marks : 1

Question Key Details :

| Key           | Value |
|---------------|-------|
| Comprehension | MCQ   |

जोड्या जुळवा

| LIST I |                           | LIST II |                     |
|--------|---------------------------|---------|---------------------|
| A.     | व्याज संरक्षण प्रमाण      | I.      | परतावा दर           |
| B.     | सुत्राची निवड             | II.     | स्थिर भांडवल        |
| C.     | क्रेडिट अनुमत             | III.    | क्रेडिट अनुमत       |
| D.     | भांडवली अंदाजपत्रक निर्णय | IV.     | भांडवली बजेट निर्णय |

योग्य पर्याय निवडा:

1. A-II, B-III, C-IV, D-I
2. A-III, B-II, C-I, D-IV
3. A-III, B-II, C-IV, D-I
4. A-II, B-IV, C-III, D-I

Options :

485584145893. 1  
485584145894. 2  
485584145895. 3  
485584145896. 4

Question Number : 90 Question Id : 48558436475 Question Type : MCQ Option Shuffling : No Is Question Mandatory : No Calculator : None  
Response Time : N.A Think Time : N.A Minimum Instruction Time : 0

Correct Marks : 5 Wrong Marks : 1

Question Key Details :

| Key | Value |
|-----|-------|
|-----|-------|

Match List I with List II

| LIST I |                      | LIST II |                                    |
|--------|----------------------|---------|------------------------------------|
| A.     | Shopping Products    | I.      | Cigarettes, Ice cream, Medicines   |
| B.     | Speciality Products  | II.     | Raw materials, Engines, Lubricants |
| C.     | Industrial Products  | III.    | Radio, Jewellery, Furniture        |
| D.     | Convenience Products | IV.     | Salon, Restaurant, Boutique        |

Choose the correct answer from the options given below:

1. A-I, B-II, C-IV, D-III
2. A-III, B-I, C-II, D-IV
3. A-III, B-IV, C-II, D-I
4. A-IV, B-III, C-II, D-I

**Options :**

485584145897. 1  
485584145898. 2  
485584145899. 3  
485584145900. 4

Question Number : 90 Question Id : 48558436475 Question Type : MCQ Option Shuffling : No Is Question Mandatory : No Calculator : None Response Time : N.A Think Time : N.A Minimum Instruction Time : 0

Correct Marks : 5 Wrong Marks : 1

Question Key Details :

| Key           | Value |
|---------------|-------|
| Comprehension | MCQ   |

जोड्या जुळवा

| LIST I |                   | LIST II |                            |
|--------|-------------------|---------|----------------------------|
| A.     | उत्पादनांची खरेदी | I.      | सिगारेट, आईसक्रीम, औषधे    |
| B.     | विशेष उत्पादने    | II.     | कच्चा माल, यंत्रे, वगण तेल |
| C.     | औद्योगिक उत्पादने | III.    | रेडिओ, दागिने, फर्निचर     |
| D.     | उपयुक्त उत्पादने  | IV.     | सेलॉन, उपहारगृह, बुटीक     |

योग्य पर्याय निवडा:

1. A-I, B-II, C-IV, D-III
2. A-III, B-I, C-II, D-IV
3. A-III, B-IV, C-II, D-I
4. A-IV, B-III, C-II, D-I

**Options :**

485584145897. 1  
485584145898. 2  
485584145899. 3  
485584145900. 4

Sub-Section Number :

2

Sub-Section Id :

4855842694

Question Shuffling Allowed :

No

Is Section Default? :

null

Question Number : 91 Question Id : 48558436476 Question Type : MCQ Option Shuffling : No Is Question Mandatory : No Calculator : None Response Time : N.A Think Time : N.A Minimum Instruction Time : 0

Correct Marks : 5 Wrong Marks : 1

Question Key Details :

| Key           | Value |
|---------------|-------|
| Comprehension | Comp1 |

Mr. Rehan has done a diploma in Financial market and its participants. Recently he got a chance to present his knowledge and train students in a school. He told students about various money market instruments. He mentioned about an instrument which is issued by R.B.I on behalf of Central Government. He told students that Banks use a system to borrow money (an instrument) to manage their CRR i.e Cash Reserve Ratio. Later, he mentioned a short term self liquidating instrument like Bills of Exchange that can be used for arranging working capital. He also told students about an instrument that helps to mobilise large amounts of money in short period by commercial banks. Lastly, Mr. Rehan spoke about an instrument that works as a replacement towards bank borrowing for large credit-worthy companies, its maturity period is 15 days to one year.

"He mentioned about an Instrument which is issued by RBI on behalf of Central Government" .

Identify the Money instrument to which the above given line is related to.

1. Call money
2. Commercial Papers
3. Treasury Bills
4. Commercial Bills

Options :

485584145901. 1  
485584145902. 2  
485584145903. 3  
485584145904. 4

Question Number : 91 Question Id : 48558436476 Question Type : MCQ Option Shuffling : No Is Question Mandatory : No Calculator : None Response Time : N.A Think Time : N.A Minimum Instruction Time : 0

Correct Marks : 5 Wrong Marks : 1

Question Key Details :

| Key           | Value |
|---------------|-------|
| Comprehension | Comp1 |

श्री रेहान याने वित्तीय बाजार आणि त्यातील सहभागी यामध्ये पदविकेचे शिक्षण पूर्ण केले आहे. नुकतेच त्याला त्याचे ज्ञान सादर करण्याची आणि विद्यार्थ्यांना प्रशिक्षण देण्याची संधी मिळाली. त्याने मिलांना नाणे बाजारातील विविध साधने / दस्तऐवजांची माहिती दिली. त्याने केंद्र सरकारच्या वतीने आर.बी.आई. (RBI) वितरण करित असलेल्या दस्तऐवज साधनांबद्दल सांगितले. त्याने विद्यार्थ्यांना सांगितले की, बँका आपला राखीव रोख प्रमाण (CRR) ची व्यवस्था करण्यासाठी एका प्रणालीचा वापर करून पैसे (दस्तऐवज/साधन) कर्जाऊ घेतात. त्यानंतर त्याने विनिमय पत्र किंवा हुंडी यासारख्या खेळते भांडवल उभारण्यासाठी वापरल्या जाणाऱ्या अल्पमुदतीच्या स्वयं रोकड सुलभ दस्तऐवजाची माहिती दिली. पाबरोबरच त्याने व्यापारी बँकांकडून अल्प कालावधीत पैशाची मोठी रक्कम चलनशील (mobilise) करण्यासाठी मदत करणाऱ्या दस्तऐवजांबद्दल विद्यार्थ्यांना सांगितले. शेवटी, तो मोठ्या कर्जासाठी पात्र असलेल्या कंपन्यांच्या बँक कर्जांना बदली म्हणून काम करणाऱ्या दस्तऐवजांबद्दल बोलला. याची मुदत 15 दिवस ते एक वर्ष एवढी असते.

"त्याने केंद्र सरकारच्या वतीने आर.बी.आई. (RBI) पुरवित असलेल्या दस्तावेजांबद्दल सांगितले"

वरील विधानाशी संबंधित असणारा नाणेबाजार/वित्त दस्तावेज ओळखा.

1. याचना/मागणी रक्कम
2. वाणिज्यपत्र
3. राजकोष पत्र
4. वाणिज्य धनपत्र

**Options :**

485584145901. 1  
485584145902. 2  
485584145903. 3  
485584145904. 4

**Question Number : 92 Question Id : 48558436477 Question Type : MCQ Option Shuffling : No Is Question Mandatory : No Calculator : None Response Time : N.A Think Time : N.A Minimum Instruction Time : 0**

**Correct Marks : 5 Wrong Marks : 1**

**Question Key Details :**

| Key           | Value |
|---------------|-------|
| Comprehension | Comp1 |

Mr. Rehan has done a diploma in Financial market and its participants. Recently he got a chance to present his knowledge and train students in a school. He told students about various money market instruments. He mentioned about an instrument which is issued by R.B.I on behalf of Central Government. He told students that Banks use a system to borrow money (an instrument) to manage their CRR i.e Cash Reserve Ratio. Later, he mentioned a short term self liquidating instrument like Bills of Exchange that can be used for arranging working capital. He also told students about an instrument that helps to mobilise large amounts of money in short period by commercial banks. Lastly, Mr. Rehan spoke about an instrument that works as a replacement towards bank borrowing for large credit-worthy companies, its maturity period is 15 days to one year.

He told that Banks use a system to borrow money (an instrument) to manage their cash Reserve Ratio.

Which security amongst money market Instrument is mentioned here.

1. Call money
2. Commercial papers
3. Treasury bills
4. Commercial Bills

**Options :**

485584145905. 1  
485584145906. 2  
485584145907. 3  
485584145908. 4

**Question Number : 92 Question Id : 48558436477 Question Type : MCQ Option Shuffling : No Is Question Mandatory : No Calculator : None Response Time : N.A Think Time : N.A Minimum Instruction Time : 0**

**Correct Marks : 5 Wrong Marks : 1**

**Question Key Details :**

| Key           | Value |
|---------------|-------|
| Comprehension | Comp1 |

श्री रेहान याने वित्तीय बाजार आणि त्यातील सहभागी यामध्ये पदविकेचे शिक्षण पूर्ण केले आहे. नुकतेच त्याला त्याचे ज्ञान सादर करण्याची आणि विद्यार्थ्यांना प्रशिक्षण देण्याची संधी मिळाली. त्याने मिलाना नाणे बाजारातील विविध साधने / दस्तऐवजांची माहिती दिली. त्याने केंद्र सरकारच्या वतीने आर.बी.आई. (RBI) वितरण करित असलेल्या दस्तऐवज साधनांबद्दल सांगितले. त्याने विद्यार्थ्यांना सांगितले की, बँका आपला राखीव रोख प्रमाण (CRR) ची व्यवस्था करण्यासाठी एका प्रणालीचा वापर करून पैसे (दस्तऐवज/साधन) कर्जाऊ घेतात. त्यानंतर त्याने विनिमय पत्र किंवा हुंडी यासारख्या खेळते भांडवल उभारण्यासाठी वापरल्या जाणाऱ्या अल्पमुदतीच्या स्वयं रोकड सुलभ दस्तऐवजाची माहिती दिली. पाबरोबरच त्याने व्यापारी बँकांकडून अल्प कालावधीत पैशाची मोठी रक्कम चलनशील (mobilise) करण्यासाठी मदत करणाऱ्या दस्तऐवजाबद्दल विद्यार्थ्यांना सांगितले. शेवटी, तो मोठ्या कर्जासाठी पात्र असलेल्या कंपन्यांच्या बँक कर्जांना बदली म्हणून काम करणाऱ्या दस्तऐवजांबद्दल बोलला. याची मुदत 15 दिवस ते एक वर्ष एवढी असते.

त्याने सांगितले की बँका राखीव रोख प्रमाणाचे (CRR) व्यवस्थापन करण्यासाठी \_\_\_\_\_ चा वापर करतात.

इथे नाणे बाजारातील दस्तऐवजांमधील कोणत्या कर्जरोखांचा उल्लेख केला आहे.

1. मागणी रक्कम
2. वाणिज्य पत्र
3. राजकोष पत्र
4. वाणिज्य धनपत्र

**Options :**

485584145905. 1
485584145906. 2
485584145907. 3
485584145908. 4

**Question Number : 93 Question Id : 48558436478 Question Type : MCQ Option Shuffling : No Is Question Mandatory : No Calculator : None Response Time : N.A Think Time : N.A Minimum Instruction Time : 0**

**Correct Marks : 5 Wrong Marks : 1**

**Question Key Details :**

| Key           | Value |
|---------------|-------|
| Comprehension | Comp1 |

Mr. Rehan has done a diploma in Financial market and its participants. Recently he got a chance to present his knowledge and train students in a school. He told students about various money market instruments. He mentioned about an instrument which is issued by R.B.I on behalf of Central Government. He told students that Banks use a system to borrow money (an instrument) to manage their CRR i.e Cash Reserve Ratio. Later, he mentioned a short term self liquidating instrument like Bills of Exchange that can be used for arranging working capital. He also told students about an instrument that helps to mobilise large amounts of money in short period by commercial banks. Lastly, Mr. Rehan spoke about an instrument that works as a replacement towards bank borrowing for large credit-worthy companies, its maturity period is 15 days to one year.

"A short term self liquidating like Bills of Exchange than can be used for arranging working capital".

Which Money Market instrument, was Mr. Rehan referring to?

1. Call money
2. Certificate of Deposit
3. Commercial bills
4. Commercial papers

**Options :**

485584145909. 1  
485584145910. 2  
485584145911. 3  
485584145912. 4

**Question Number : 93 Question Id : 48558436478 Question Type : MCQ Option Shuffling : No Is Question Mandatory : No Calculator : None Response Time : N.A Think Time : N.A Minimum Instruction Time : 0**

**Correct Marks : 5 Wrong Marks : 1**

**Question Key Details :**

| Key           | Value |
|---------------|-------|
| Comprehension | Comp1 |

श्री रेहान याने वित्तीय बाजार आणि त्यातील सहभागी यामध्ये पदविकेचे शिक्षण पूर्ण केले आहे. नुकतेच त्याला त्याचे ज्ञान सादर करण्याची आणि विद्यार्थ्यांना प्रशिक्षण देण्याची संधी मिळाली. त्याने मिलाना नाणे बाजारातील विविध साधने / दस्तऐवजांची माहिती दिली. त्याने केंद्र सरकारच्या वतीने आर.बी.आई. (RBI) वितरण करित असलेल्या दस्तऐवज/साधनांबद्दल सांगितले. त्याने विद्यार्थ्यांना सांगितले की, बँका आपला राखीव रोख प्रमाण (CRR) ची व्यवस्था करण्यासाठी एका प्रणालीचा वापर करून पैसे (दस्तऐवज/साधन) कर्जाऊ घेतात. त्यानंतर त्याने विनिमय पत्र किंवा हुंडी यासारख्या खेळते भांडवल उभारण्यासाठी वापरल्या जाणाऱ्या अल्पमुदतीच्या स्वयं रोकड सुलभ दस्तऐवजाची माहिती दिली. पाबरोबरच त्याने व्यापारी बँकांकडून अल्प कालावधीत पैशाची मोठी रक्कम चलनशील (mobilise) करण्यासाठी मदत करणाऱ्या दस्तऐवजाबद्दल विद्यार्थ्यांना सांगितले. शेवटी, तो मोठ्या कर्जासाठी पात्र असलेल्या कंपन्यांच्या बँक कर्जांना बदली म्हणून काम करणाऱ्या दस्तऐवजांबद्दल बोलला. याची मुदत 15 दिवस ते एक वर्ष एवढी असते.

विनिमय विपत्र किंवा हुंडीसारख्या खेळते भांडवल उभारणीसाठी वापरल्या जाणाऱ्या अल्पमुदतीच्या स्वयं रोकड सुलभ दस्तऐवज.

श्री रेहान हथे कोणाला नाणेबाजार दस्तऐवजाबद्दल सांगत आहे

1. मागणी रक्कम
2. ठेवीचे प्रमाणपत्र
3. वाणिज्य धनपत्र
4. वाणिज्य पत्र

**Options :**

485584145909. 1  
485584145910. 2  
485584145911. 3  
485584145912. 4

**Question Number : 94 Question Id : 48558436479 Question Type : MCQ Option Shuffling : No Is Question Mandatory : No Calculator : None Response Time : N.A Think Time : N.A Minimum Instruction Time : 0**

**Correct Marks : 5 Wrong Marks : 1**

**Question Key Details :**

| Key           | Value |
|---------------|-------|
| Comprehension | Comp1 |

Mr. Rehan has done a diploma in Financial market and its participants. Recently he got a chance to present his knowledge and train students in a school. He told students about various money market instruments. He mentioned about an instrument which is issued by R.B.I on behalf of Central Government. He told students that Banks use a system to borrow money (an instrument) to manage their CRR i.e Cash Reserve Ratio. Later, he mentioned a short term self liquidating instrument like Bills of Exchange that can be used for arranging working capital. He also told students about an instrument that helps to mobilise large amounts of money in short period by commercial banks. Lastly, Mr. Rehan spoke about an instrument that works as a replacement towards bank borrowing for large credit-worthy companies, its maturity period is 15 days to one year.

"An instrument that helps to mobilise large amounts of money in short period by commercial banks".

Identify the money market instrument stated above :

1. Certificate of Deposit
2. Call money
3. Commercial bills
4. Treasury bills

Options :

485584145913. 1  
485584145914. 2  
485584145915. 3  
485584145916. 4

Question Number : 94 Question Id : 48558436479 Question Type : MCQ Option Shuffling : No Is Question Mandatory : No Calculator : None  
Response Time : N.A Think Time : N.A Minimum Instruction Time : 0

Correct Marks : 5 Wrong Marks : 1

Question Key Details :

| Key           | Value |
|---------------|-------|
| Comprehension | Comp1 |

श्री रेहान याने वित्तीय बाजार आणि त्यातील सहभागी यामध्ये पदविकेचे शिक्षण पूर्ण केले आहे. नुकतेच त्याला त्याचे ज्ञान सादर करण्याची आणि विद्यार्थ्यांना प्रशिक्षण देण्याची संधी मिळाली. त्याने मिलांना नाणे बाजारातील विविध साधने / दस्तऐवजांची माहिती दिली. त्याने केंद्र सरकारच्या वतीने आर.बी.आई. (RBI) वितरण करीत असलेल्या दस्तऐवज साधनांबद्दल सांगितले. त्याने विद्यार्थ्यांना सांगितले की, बँका आपला राखीव रोख प्रमाण (CRR) ची व्यवस्था करण्यासाठी एका प्रणालीचा वापर करून पैसे (दस्तऐवज/साधन) कर्जाऊ घेतात. त्यानंतर त्याने विनिमय पत्र किंवा हंडी यासारख्या खेळते भांडवल उभारण्यासाठी वापरल्या जाणाऱ्या अल्पमुदतीच्या स्वयं रोकड सुलभ दस्तऐवजाची माहिती दिली. याबरोबरच त्याने व्यापारी बँकांकडून अल्प कालावधीत पैशाची मोठी रक्कम चलनशील (mobilise) करण्यासाठी मदत करणाऱ्या दस्तऐवजांबद्दल विद्यार्थ्यांना सांगितले. शेवटी, तो मोठ्या कर्जासाठी पात्र असलेल्या कंपन्यांच्या बँक कर्जांना बदली म्हणून काम करणाऱ्या दस्तऐवजांबद्दल बोलला. याची मुदत 15 दिवस ते एक वर्ष एवढी असते.

व्यापारी बँकांकडून पैशाची मोठी रक्कम संपत्तीत करण्यासाठी मदत करणारा दस्तऐवज

वर नमूद केलेला नाणेबाजार दस्तऐवज ओळखा

1. ठेकीचे प्रमाणपत्र
2. मागणी रक्कम
3. व्यावसायिक बिले
4. राजकोष पत्र

Options :

485584145913. 1  
485584145914. 2  
485584145915. 3  
485584145916. 4

Question Number : 95 Question Id : 48558436480 Question Type : MCQ Option Shuffling : No Is Question Mandatory : No Calculator : None  
Response Time : N.A Think Time : N.A Minimum Instruction Time : 0

Correct Marks : 5 Wrong Marks : 1

Question Key Details :

| Key | Value |
|-----|-------|
|-----|-------|

Mr. Rehan has done a diploma in Financial market and its participants. Recently he got a chance to present his knowledge and train students in a school. He told students about various money market instruments. He mentioned about an instrument which is issued by R.B.I on behalf of Central Government. He told students that Banks use a system to borrow money (an instrument) to manage their CRR i.e Cash Reserve Ratio. Later, he mentioned a short term self liquidating instrument like Bills of Exchange that can be used for arranging working capital. He also told students about an instrument that helps to mobilise large amounts of money in short period by commercial banks. Lastly, Mr. Rehan spoke about an instrument that works as a replacement towards bank borrowing for large credit-worthy companies, its maturity period is 15 days to one year.

"An instrument that works as a replacement towards bank borrowing for large Credit-worthy companies, its maturity period is 15 days to one year".

Identify the money market instrument stated in the above lines.

1. Call money
2. Commercial papers
3. Commercial bills
4. Certificate of Deposit

Options :

485584145917. 1
485584145918. 2
485584145919. 3
485584145920. 4

Question Number : 95 Question Id : 48558436480 Question Type : MCQ Option Shuffling : No Is Question Mandatory : No Calculator : None Response Time : N.A Think Time : N.A Minimum Instruction Time : 0

Correct Marks : 5 Wrong Marks : 1

Question Key Details :

| Key           | Value |
|---------------|-------|
| Comprehension | Comp1 |

श्री रेहान याने वित्तीय बाजार आणि त्यातील सहभागी यामध्ये पदविकेचे शिक्षण पूर्ण केले आहे. नुकतेच त्याला त्याचे ज्ञान सादर करण्याची आणि विद्यार्थ्यांना प्रशिक्षण देण्याची संधी मिळाली. त्याने मिलाना नाणे बाजारातील विविध साधने / दस्तऐवजांची माहिती दिली. त्याने केंद्र सरकारच्या वतीने आर.बी.आई. (RBI) वितरण करीत असलेल्या दस्तऐवज साधनांबद्दल सांगितले. त्याने विद्यार्थ्यांना सांगितले की, बँका आपला राखीव रोख प्रमाण (CRR) ची व्यवस्था करण्यासाठी एका प्रणालीचा वापर करून पैसे (दस्तऐवज/साधन) कर्जाऊ घेतात. त्यानंतर त्याने विनिमय पत्र किंवा हंडी यासारख्या खेळते भांडवल उभारण्यासाठी वापरल्या जाणाऱ्या अल्पमुदतीच्या स्वयं रोकड सुलभ दस्तऐवजाची माहिती दिली. पाबरोबरच त्याने व्यापारी बँकांकडून अल्प कालावधीत पैशाची मोठी रक्कम चलनशील (mobilise) करण्यासाठी मदत करणाऱ्या दस्तऐवजाबद्दल विद्यार्थ्यांना सांगितले. शेवटी, तो मोठ्या कर्जासाठी पात्र असलेल्या कंपन्यांच्या बँक कर्जांना बदली म्हणून काम करणाऱ्या दस्तऐवजांबद्दल बोलला. याची मुदत 15 दिवस ते एक वर्ष एवढी असते.

मोठ्या कर्जासाठी पात्र असलेल्या कंपन्यांच्या बँक कर्जांना बदली म्हणून काम करणारे दस्तऐवज यांची मुदत 15 दिवस ते एक वर्ष एवढी असते.

1. याचना रक्कम
2. वाणिज्य पत्रे
3. व्यावसायिक बिले
4. ठेवीचे प्रमाणपत्र



**Options :**

485584145917. 1  
 485584145918. 2  
 485584145919. 3  
 485584145920. 4

**Sub-Section Number :** 3  
**Sub-Section Id :** 4855842695  
**Question Shuffling Allowed :** No  
**Is Section Default? :** null

**Question Number : 96 Question Id : 48558436481 Question Type : MCQ Option Shuffling : No Is Question Mandatory : No Calculator : None Response Time : N.A Think Time : N.A Minimum Instruction Time : 0 Correct Marks : 5 Wrong Marks : 1**

**Question Key Details :**

| Key           | Value |
|---------------|-------|
| Comprehension | Comp2 |

Safex Ltd is a company manufacturing masks. The newly appointed marketing manager of the firm has taken 'Covid Pandemic' as an opportunity to increase sales. He used a combination of tools to achieve its communication objective. He constituted 4 teams for designing these tools.

Team 1 :- The tool used by them was an impersonal form of communication which was paid for.

Team 2:- The tool used by them involves oral presentation of message in the form of conversation with one or more prospective customers for the purpose of making sales

Team 3:- This team used short-term incentives which were designed to encourage the buyers to make immediate purchase.

Team 4:- This team used a non-personal form of communication which was non-paid.

All the teams successfully designed their tools and achieved their desired results.

The variable of marketing mix discussed in the above case is \_\_\_\_\_

1. Product mix
2. Place mix
3. Price mix
4. Promotion mix

**Options :**

485584145921. 1  
 485584145922. 2  
 485584145923. 3  
 485584145924. 4

**Question Number : 96 Question Id : 48558436481 Question Type : MCQ Option Shuffling : No Is Question Mandatory : No Calculator : None Response Time : N.A Think Time : N.A Minimum Instruction Time : 0 Correct Marks : 5 Wrong Marks : 1**

**Question Key Details :**

| Key           | Value |
|---------------|-------|
| Comprehension | Comp2 |

सेफेक्स लि. ही एक मास्कस् (Masks) बनविणारी कंपनी आहे. नवीन नियुक्ती झालेला विपणन व्यवस्थापक कोविड महामारीकडे खप वाढविण्याची संधी म्हणून पाहतो. त्याने त्याचे संप्रेषण उद्दिष्ट साध्य करण्यासाठी अनेक साधनांच्या मिश्रणाचा वापर केला. या साधनांचा आकृतीबंध तयार करण्यासाठी त्याने चार गट स्थापन केले.

गट 1 - यांनी व्यक्तिनिरपेक्ष संप्रेषण या साधनाचा वापर केला. त्यासाठी पैसे दिले गेले.

गट 2 - यांनी वापरलेल्या साधनामध्ये विक्री करणाऱ्या हेतूने एक किंवा अधिक संभाव्य ग्राहकांशी संभाषणाच्या संदेशाचे तोंडी सादरीकरण समाविष्ट आहे.

गट 3 - या गटाने ग्राहकांना लगेच खरेदी करायला प्रोत्साहित करण्यासाठी तयार केलेल्या अल्प मुदतीच्या प्रेरकांचा उपयोग केला.

गट 4 - यांनी वैयक्तिक नसलेल्या संप्रेषणांचा वापर केला, जे विनामूल्य होते.

गटाने यशस्वीरित्या साधनांचा आकृतीबंध तयार करून इच्छित परिणाम साध्य केले.

वरील उदाहरणात विपणन मिश्रणाच्या \_\_\_\_\_ चलाची चर्चा केली आहे.

1. उत्पादन मिश्रण
2. स्थान मिश्रण
3. किंमत मिश्रण
4. विक्रयवृद्धी मिश्रण

**Options :**

485584145921. 1  
485584145922. 2  
485584145923. 3  
485584145924. 4

**Question Number : 97 Question Id : 48558436482 Question Type : MCQ Option Shuffling : No Is Question Mandatory : No Calculator : None Response Time : N.A Think Time : N.A Minimum Instruction Time : 0**

**Correct Marks : 5 Wrong Marks : 1**

**Question Key Details :**

| Key           | Value |
|---------------|-------|
| Comprehension | Comp2 |

Safex Ltd is a company manufacturing masks. The newly appointed marketing manager of the firm has taken 'Covid Pandemic' as an opportunity to increase sales. He used a combination of tools to achieve its communication objective. He constituted 4 teams for designing these tools.

Team 1 :- The tool used by them was an impersonal form of communication which was paid for.

Team 2:- The tool used by them involves oral presentation of message in the form of conversation with one or more prospective customers for the purpose of making sales

Team 3:- This team used short-term incentives which were designed to encourage the buyers to make immediate purchase.

Team 4:- This team used a non-personal form of communication which was non-paid.

All the teams successfully designed their tools and achieved their desired results.

The tool used by Team 3 was \_\_\_\_\_

1. Public relations
2. Sales promotion
3. Publicity
4. Branding

Options :

485584145925. 1
485584145926. 2
485584145927. 3
485584145928. 4

Question Number : 97 Question Id : 48558436482 Question Type : MCQ Option Shuffling : No Is Question Mandatory : No Calculator : None Response Time : N.A Think Time : N.A Minimum Instruction Time : 0

Correct Marks : 5 Wrong Marks : 1

Question Key Details :

| Key           | Value |
|---------------|-------|
| Comprehension | Comp2 |

सेफेक्स लि. ही एक मास्कस् (Masks) बनविणारी कंपनी आहे. नवीन नियुक्ती झालेला विपणन व्यवस्थापक कोविड महामारीकडे खूप वाढविण्याची संधी म्हणून पाहतो. त्याने त्याचे संप्रेषण उद्दिष्ट साध्य करण्यासाठी अनेक साधनांच्या मिश्रणाचा वापर केला. या साधनांचा आकृतीबंध तयार करण्यासाठी त्याने चार गट स्थापन केले.

गट 1 - यांनी व्यक्तिनिरपेक्ष संप्रेषण या साधनाचा वापर केला. त्यासाठी पैसे दिले गेले.

गट 2 - यांनी वापरलेल्या साधनामध्ये विक्री करणाऱ्या हेतुने एक किंवा अधिक संभाव्य ग्राहकांशी संभाषणाच्या संदेशाचे तोंडी सादरीकरण समाविष्ट आहे.

गट 3 - या गटाने ग्राहकांना लगेच खरेदी करायला प्रोत्साहित करण्यासाठी तयार केलेल्या अल्प मुदतीच्या प्रेरकांचा उपयोग केला.

गट 4 - यांनी वैयक्तिक नसलेल्या संप्रेषणांचा वापर केला, जे विनामूल्य होते.

गटाने यशस्वीरित्या साधनांचा आकृतीबंध तयार करून इच्छित परिणाम साध्य केले.

गट क्र. 3 ने वापरलेले साधन \_\_\_\_\_ आहे.

1. जनसंपर्क
2. विक्रीसंतर्धन
3. प्रसिद्धी
4. ब्रँडींग

Options :

485584145925. 1
485584145926. 2
485584145927. 3
485584145928. 4

Question Number : 98 Question Id : 48558436483 Question Type : MCQ Option Shuffling : No Is Question Mandatory : No Calculator : None Response Time : N.A Think Time : N.A Minimum Instruction Time : 0

Correct Marks : 5 Wrong Marks : 1

Question Key Details :

| Key           | Value |
|---------------|-------|
| Comprehension | Comp2 |

Safex Ltd is a company manufacturing masks. The newly appointed marketing manager of the firm has taken 'Covid Pandemic' as an opportunity to increase sales. He used a combination of tools to achieve its communication objective. He constituted 4 teams for designing these tools.

Team 1 :- The tool used by them was an impersonal form of communication which was paid for.

Team 2:- The tool used by them involves oral presentation of message in the form of conversation with one or more prospective customers for the purpose of making sales

Team 3:- This team used short-term incentives which were designed to encourage the buyers to make immediate purchase.

Team 4:- This team used a non-personal form of communication which was non-paid.

All the teams successfully designed their tools and achieved their desired results.

The tool used by Team 4 is \_\_\_\_\_

1. Packaging
2. Advertising
3. Publicity
4. Sales promotion

Options :

485584145929. 1

485584145930. 2

485584145931. 3

485584145932. 4

Question Number : 98 Question Id : 48558436483 Question Type : MCQ Option Shuffling : No Is Question Mandatory : No Calculator : None Response Time : N.A Think Time : N.A Minimum Instruction Time : 0

Correct Marks : 5 Wrong Marks : 1

Question Key Details :

| Key           | Value |
|---------------|-------|
| Comprehension | Comp2 |

सेफेक्स लि. ही एक मास्कस् (Masks) बनविणारी कंपनी आहे. नवीन नियुक्ती झालेला विपणन व्यवस्थापक कोविड महामारीकडे खप वाढविण्याची संधी म्हणून पाहतो. त्याने त्याचे संप्रेषण उद्दिष्ट साध्य करण्यासाठी अनेक साधनांच्या मिश्रणाचा वापर केला. या साधनांचा आकृतीबंध तयार करण्यासाठी त्याने चार गट स्थापन केले.

गट 1 - यांनी व्यक्तिनिरपेक्ष संप्रेषण या साधनाचा वापर केला. त्यासाठी पैसे दिले गेले.

गट 2 - यांनी वापरलेल्या साधनामध्ये विक्री करणाऱ्या हेतूने एक किंवा अधिक संभाव्य ग्राहकांशी संभाषणाच्या संदेशाचे तोंडी सादरीकरण समाविष्ट आहे.

गट 3 - या गटाने ग्राहकांना लगेच खरेदी करायला प्रोत्साहित करण्यासाठी तयार केलेल्या अल्प मुदतीच्या प्रेरकांचा उपयोग केला.

गट 4 - यांनी वैयक्तिक नसलेल्या संप्रेषणांचा वापर केला, जे विनामूल्य होते.

गटाने यशस्वीरित्या साधनांचा आकृतीबंध तयार करून इच्छित परिणाम साध्य केले.

गटाने \_\_\_\_\_ हे साधन वापरले आहे.

1. परिवेष्टन / संवेष्टन
2. जाहिरात
3. प्रसिद्धी
4. विक्रयवृद्धी

**Options :**

485584145929. 1  
485584145930. 2  
485584145931. 3  
485584145932. 4

**Question Number : 99 Question Id : 48558436484 Question Type : MCQ Option Shuffling : No Is Question Mandatory : No Calculator : None Response Time : N.A Think Time : N.A Minimum Instruction Time : 0**

**Correct Marks : 5 Wrong Marks : 1**

**Question Key Details :**

| Key           | Value |
|---------------|-------|
| Comprehension | Comp2 |

Safex Ltd is a company manufacturing masks. The newly appointed marketing manager of the firm has taken 'Covid Pandemic' as an opportunity to increase sales. He used a combination of tools to achieve its communication objective. He constituted 4 teams for designing these tools.

Team 1 :- The tool used by them was an impersonal form of communication which was paid for.

Team 2:- The tool used by them involves oral presentation of message in the form of conversation with one or more prospective customers for the purpose of making sales

Team 3:- This team used short-term incentives which were designed to encourage the buyers to make immediate purchase.

Team 4:- This team used a non-personal form of communication which was non-paid.

All the teams successfully designed their tools and achieved their desired results.

The tool used by Team 1 is \_\_\_\_\_

1. Advertising
2. Public relations
3. Publicity
4. Personal selling

**Options :**

485584145933. 1  
485584145934. 2  
485584145935. 3  
485584145936. 4

**Question Number : 99 Question Id : 48558436484 Question Type : MCQ Option Shuffling : No Is Question Mandatory : No Calculator : None Response Time : N.A Think Time : N.A Minimum Instruction Time : 0**

**Correct Marks : 5 Wrong Marks : 1**

**Question Key Details :**

| Key | Value |
|-----|-------|
|-----|-------|

सेफेक्स लि. ही एक मास्कस् (Masks) बनविणारी कंपनी आहे. नवीन नियुक्ती झालेला विपणन व्यवस्थापक कोविड महामारीकडे खप वाढविण्याची संधी म्हणून पाहतो. त्याने त्याचे संप्रेषण उद्दिष्ट साध्य करण्यासाठी अनेक साधनांच्या मिश्रणाचा वापर केला. या साधनांचा आकृतीबंध तयार करण्यासाठी त्याने चार गट स्थापन केले.

गट 1 - यांनी व्यक्तिनिरपेक्ष संप्रेषण या साधनाचा वापर केला. त्यासाठी पैसे दिले गेले.

गट 2 - यांनी वापरलेल्या साधनामध्ये विक्री करणाऱ्या हेतूने एक किंवा अधिक संभाव्य ग्राहकांशी संभाषणाच्या संदेशाचे तोंडी सादरीकरण समाविष्ट आहे.

गट 3 - या गटाने ग्राहकांना लगेच खरेदी करायला प्रोत्साहित करण्यासाठी तयार केलेल्या अल्प मुदतीच्या प्रेरकांचा उपयोग केला.

गट 4 - यांनी वैयक्तिक नसलेल्या संप्रेषणांचा वापर केला, जे विनामूल्य होते.

गटाने यशस्वीरित्या साधनांचा आकृतीबंध तयार करून इच्छित परिणाम साध्य केले.

गट क्र. 1 ने \_\_\_\_\_ साधनाचा वापर केला.

1. जाहिरात
2. जनसंपर्क
3. प्रसिद्धी
4. व्यक्तिगत विक्री

**Options :**

485584145933. 1  
485584145934. 2  
485584145935. 3  
485584145936. 4

Question Number : 100 Question Id : 48558436485 Question Type : MCQ Option Shuffling : No Is Question Mandatory : No Calculator : None Response Time : N.A Think Time : N.A Minimum Instruction Time : 0

Correct Marks : 5 Wrong Marks : 1

**Question Key Details :**

| Key           | Value |
|---------------|-------|
| Comprehension | Comp2 |

Safex Ltd is a company manufacturing masks. The newly appointed marketing manager of the firm has taken 'Covid Pandemic' as an opportunity to increase sales. He used a combination of tools to achieve its communication objective. He constituted 4 teams for designing these tools.

Team 1 :- The tool used by them was an impersonal form of communication which was paid for.

Team 2:- The tool used by them involves oral presentation of message in the form of conversation with one or more prospective customers for the purpose of making sales

Team 3:- This team used short-term incentives which were designed to encourage the buyers to make immediate purchase.

Team 4:- This team used a non-personal form of communication which was non-paid.

All the teams successfully designed their tools and achieved their desired results.

The tool used by Team 2 is \_\_\_\_\_

1. Public relations
2. Personal selling
3. Advertising
4. Publicity

**Options :**

485584145937. 1  
485584145938. 2  
485584145939. 3  
485584145940. 4

**Question Number : 100 Question Id : 48558436485 Question Type : MCQ Option Shuffling : No Is Question Mandatory : No Calculator : None Response Time : N.A Think Time : N.A Minimum Instruction Time : 0**

**Correct Marks : 5 Wrong Marks : 1**

**Question Key Details :**

| Key           | Value |
|---------------|-------|
| Comprehension | Comp2 |

सेफेक्स लि. ही एक मास्कस् (Masks) बनविणारी कंपनी आहे. नवीन नियुक्ती झालेला विपणन व्यवस्थापक कोविड महामारीकडे खप वाढविण्याची संधी म्हणून पाहतो. त्याने त्याचे संप्रेषण उद्दिष्ट साध्य करण्यासाठी अनेक साधनांच्या मिश्रणाचा वापर केला. या साधनांचा आकृतीबंध तयार करण्यासाठी त्याने चार गट स्थापन केले.

गट 1 - यांनी व्यक्तिनिरपेक्ष संप्रेषण या साधनाचा वापर केला. त्यासाठी पैसे दिले गेले.

गट 2 - यांनी वापरलेल्या साधनामध्ये विक्री करणाऱ्या हेतुने एक किंवा अधिक संभाव्य ग्राहकांशी संभाषणाच्या संदेशाचे तोंडी सादरीकरण समाविष्ट आहे.

गट 3 - या गटाने ग्राहकांना लगेच खरेदी करायला प्रोत्साहित करण्यासाठी तयार केलेल्या अल्प मुदतीच्या प्रेरकांचा उपयोग केला.

गट 4 - यांनी वैयक्तिक नसलेल्या संप्रेषणांचा वापर केला, जे विनामूल्य होते.

गटाने यशस्वीरित्या साधनांचा आकृतीबंध तयार करून इच्छित परिणाम साध्य केले.

गट क्र. 2 ने \_\_\_\_\_ साधनाचा वापर केला.

1. जनसंपर्क
2. व्यक्तिगत विक्री
3. जाहिरात
4. प्रसिद्धी

**Options :**

485584145937. 1  
485584145938. 2  
485584145939. 3  
485584145940. 4

**History**

**Group Number :**

4

Group Id : 485584824  
Group Maximum Duration : 45  
Group Minimum Duration : 45  
Show Attended Group? : No  
Edit Attended Group? : No  
Break time : 0  
Group Marks : 200  
Is this Group for Examiner? : No  
Examiner permission : Cant View  
Show Progress Bar? : No

## History

Section Id : 485584948  
Section Number : 1  
Section type : Online  
Mandatory or Optional : Mandatory  
Number of Questions : 50  
Number of Questions to be attempted : 40  
Section Marks : 200  
Enable Mark as Answered Mark for Review and Clear Response : Yes  
Maximum Instruction Time : 0  
Sub-Section Number : 1  
Sub-Section Id : 4855842696  
Question Shuffling Allowed : Yes  
Is Section Default? : null

Question Number : 101 Question Id : 48558436486 Question Type : MCQ Option Shuffling : No Is Question Mandatory : No Calculator :  
None Response Time : N.A Think Time : N.A Minimum Instruction Time : 0  
Correct Marks : 5 Wrong Marks : 1

Question Key Details :

| Key           | Value |
|---------------|-------|
| Comprehension | MCQ   |

Who made the following statement: "Marshall left India three thousand years older than he had found her."

1. Daya Ram Sahni
2. Rakhal Das Banerji
3. R.E. M. Wheeler
4. S.N. Roy

Options :

485584145941. 1  
485584145942. 2  
485584145943. 3  
485584145944. 4

Question Number : 101 Question Id : 48558436486 Question Type : MCQ Option Shuffling : No Is Question Mandatory : No Calculator :  
None Response Time : N.A Think Time : N.A Minimum Instruction Time : 0  
Correct Marks : 5 Wrong Marks : 1

Question Key Details :

| Key           | Value |
|---------------|-------|
| Comprehension | MCQ   |



"मार्शल त्याला सापडलेल्या भारतापेक्षा 3000 वर्षे मागे घेऊन गेला" हे विधान कोणी केले आहे?

1. दयाराम सहानी
2. राखालदास बेंनर्जी
3. आर इ एम् व्हीलर
4. एस्. एन. रॉय

**Options :**

485584145941. 1  
485584145942. 2  
485584145943. 3  
485584145944. 4

**Question Number : 102 Question Id : 48558436487 Question Type : MCQ Option Shuffling : No Is Question Mandatory : No Calculator : None Response Time : N.A Think Time : N.A Minimum Instruction Time : 0**

**Correct Marks : 5 Wrong Marks : 1**

**Question Key Details :**

| Key           | Value |
|---------------|-------|
| Comprehension | MCQ   |

Archaeological study of a mound can provide cultural sequence for a site. Study of such layers is called \_\_\_\_\_.

1. Ethnography
2. Stratigraphy
3. Epigraphy
4. Sociography

**Options :**

485584145945. 1  
485584145946. 2  
485584145947. 3  
485584145948. 4

**Question Number : 102 Question Id : 48558436487 Question Type : MCQ Option Shuffling : No Is Question Mandatory : No Calculator : None Response Time : N.A Think Time : N.A Minimum Instruction Time : 0**

**Correct Marks : 5 Wrong Marks : 1**

**Question Key Details :**

| Key           | Value |
|---------------|-------|
| Comprehension | MCQ   |

एखाद्या टेकडीचा पुरातत्त्वीय अभ्यास त्या स्थळाच्या संदर्भातील सांस्कृतिक कालानुक्रम स्पष्ट करतो. अशाप्रकारे केलेल्या स्तरांच्या अभ्यासास \_\_\_\_\_ म्हणतात.

1. संस्कृतीवर्णन (Ethnography)
2. स्तरविज्ञान (Stratigraphy)
3. पुरालेखविज्ञान (Epigraphy)
4. समाजशास्त्रीय विज्ञान (Sociography)

**Options :**

485584145945. 1

485584145946. 2  
485584145947. 3  
485584145948. 4

**Question Number : 103 Question Id : 48558436488 Question Type : MCQ Option Shuffling : No Is Question Mandatory : No Calculator :  
None Response Time : N.A Think Time : N.A Minimum Instruction Time : 0  
Correct Marks : 5 Wrong Marks : 1**

**Question Key Details :**

| Key           | Value |
|---------------|-------|
| Comprehension | MCQ   |

Which of the following Harappan sites were located near the coast?

1. Banawali and Rakhigarhi
2. Nageshwar and Balakot
3. Ganweriwala and Mitathal
4. Kot-Diji and Kalibangan

**Options :**

485584145949. 1  
485584145950. 2  
485584145951. 3  
485584145952. 4

**Question Number : 103 Question Id : 48558436488 Question Type : MCQ Option Shuffling : No Is Question Mandatory : No Calculator :  
None Response Time : N.A Think Time : N.A Minimum Instruction Time : 0  
Correct Marks : 5 Wrong Marks : 1**

**Question Key Details :**

| Key           | Value |
|---------------|-------|
| Comprehension | MCQ   |

खालीलपैकी कोणती हडप्पा संस्कृतीतील स्थळे समुद्र किनाऱ्याजवळ स्थित आहेत?

1. बनावली आणि राखगढी
2. नागेश्वर आणि बालाकोट
3. गणवेरीवाला आणि मिठाथल
4. कोट दिजी आणि कालीबंगन

**Options :**

485584145949. 1  
485584145950. 2  
485584145951. 3  
485584145952. 4

**Question Number : 104 Question Id : 48558436489 Question Type : MCQ Option Shuffling : No Is Question Mandatory : No Calculator :  
None Response Time : N.A Think Time : N.A Minimum Instruction Time : 0  
Correct Marks : 5 Wrong Marks : 1**

**Question Key Details :**

| Key           | Value |
|---------------|-------|
| Comprehension | MCQ   |

Who among the following is often held as the 'Father of Indian Archaeology'?

1. John Marshall
2. Alexander Cunningham
3. James Prinsep
4. R.E.M. Wheeler

**Options :**

485584145953. 1  
485584145954. 2  
485584145955. 3  
485584145956. 4

**Question Number : 104 Question Id : 48558436489 Question Type : MCQ Option Shuffling : No Is Question Mandatory : No Calculator : None Response Time : N.A Think Time : N.A Minimum Instruction Time : 0**

**Correct Marks : 5 Wrong Marks : 1**

**Question Key Details :**

| Key           | Value |
|---------------|-------|
| Comprehension | MCQ   |

खालीलपैकी कोणाला भारतीय पुरातत्वशास्त्राचे जनक असे संबोधले जाते?

1. जॉन मार्शल
2. अलेक्झांडर कनिंगहॅम
3. जेम्स प्रिन्सेप
4. आर. इ. एम. व्हीलर

**Options :**

485584145953. 1  
485584145954. 2  
485584145955. 3  
485584145956. 4

**Question Number : 105 Question Id : 48558436490 Question Type : MCQ Option Shuffling : No Is Question Mandatory : No Calculator : None Response Time : N.A Think Time : N.A Minimum Instruction Time : 0**

**Correct Marks : 5 Wrong Marks : 1**

**Question Key Details :**

| Key           | Value |
|---------------|-------|
| Comprehension | MCQ   |

Traces of canals have been found at the Harappan site of Shortughai, which is located in \_\_\_\_\_.

1. Punjab
2. Sind
3. Afghanistan
4. Gujarat

**Options :**

485584145957. 1  
485584145958. 2  
485584145959. 3  
485584145960. 4

Question Number : 105 Question Id : 48558436490 Question Type : MCQ Option Shuffling : No Is Question Mandatory : No Calculator : None Response Time : N.A Think Time : N.A Minimum Instruction Time : 0

Correct Marks : 5 Wrong Marks : 1

Question Key Details :

| Key           | Value |
|---------------|-------|
| Comprehension | MCQ   |

शोर्तुगलत येधील हडडतल संसुकृतीक्या स्थललतलर कलतलतुलके डुरलते सलडडले आहते. शोर्तुगलत \_\_\_\_\_ येथे स्थलत आहे.

1. डेजलत
2. सलध
3. अकगलडलस्तलन
4. गुजुरलत

Options :

485584145957. 1  
485584145958. 2  
485584145959. 3  
485584145960. 4

Question Number : 106 Question Id : 48558436491 Question Type : MCQ Option Shuffling : No Is Question Mandatory : No Calculator : None Response Time : N.A Think Time : N.A Minimum Instruction Time : 0

Correct Marks : 5 Wrong Marks : 1

Question Key Details :

| Key           | Value |
|---------------|-------|
| Comprehension | MCQ   |

In ancient India, the first coins to bear the names and images of the rulers were issued by the \_\_\_\_\_.

1. Indo-Greeks
2. Kushans
3. Parthians
4. Shakas

Options :

485584145961. 1  
485584145962. 2  
485584145963. 3  
485584145964. 4

Question Number : 106 Question Id : 48558436491 Question Type : MCQ Option Shuffling : No Is Question Mandatory : No Calculator : None Response Time : N.A Think Time : N.A Minimum Instruction Time : 0

Correct Marks : 5 Wrong Marks : 1

Question Key Details :

| Key           | Value |
|---------------|-------|
| Comprehension | MCQ   |

प्राचीन भारतात शासकाचे नाव व चित्र असणारी नाणी \_\_\_\_\_ यांनी प्रचारात आणली.

1. इंडो - ग्रीक
2. कुशाण
3. पार्थियन्स
4. शक

**Options :**

485584145961. 1  
485584145962. 2  
485584145963. 3  
485584145964. 4

**Question Number : 107 Question Id : 48558436492 Question Type : MCQ Option Shuffling : No Is Question Mandatory : No Calculator : None Response Time : N.A Think Time : N.A Minimum Instruction Time : 0**

**Correct Marks : 5 Wrong Marks : 1**

**Question Key Details :**

| Key           | Value |
|---------------|-------|
| Comprehension | MCQ   |

Which place are you visiting if you come across the lion capital built by Asoka?

1. Varanasi
2. Delhi
3. Sarnath
4. Ujjayini

**Options :**

485584145965. 1  
485584145966. 2  
485584145967. 3  
485584145968. 4

**Question Number : 107 Question Id : 48558436492 Question Type : MCQ Option Shuffling : No Is Question Mandatory : No Calculator : None Response Time : N.A Think Time : N.A Minimum Instruction Time : 0**

**Correct Marks : 5 Wrong Marks : 1**

**Question Key Details :**

| Key           | Value |
|---------------|-------|
| Comprehension | MCQ   |

अशोकाने उभारलेल्या सिंह स्तंभ शीर्षाला तुम्ही भेट देत आहात, तर तुम्ही कोणत्या ठिकाणाला भेट देत आहात?

1. वाराणसी
2. दिल्ली
3. सारनाथ
4. उज्जैन

**Options :**

485584145965. 1  
485584145966. 2  
485584145967. 3

485584145968. 4

Question Number : 108 Question Id : 48558436493 Question Type : MCQ Option Shuffling : No Is Question Mandatory : No Calculator : None Response Time : N.A Think Time : N.A Minimum Instruction Time : 0

Correct Marks : 5 Wrong Marks : 1

Question Key Details :

| Key           | Value |
|---------------|-------|
| Comprehension | MCQ   |

Prabhavati Gupta was the daughter of \_\_\_\_\_.

1. Chandragupta II
2. Samudragupta
3. Chandragupta Maurya
4. Skandgupta

Options :

485584145969. 1  
485584145970. 2  
485584145971. 3  
485584145972. 4

Question Number : 108 Question Id : 48558436493 Question Type : MCQ Option Shuffling : No Is Question Mandatory : No Calculator : None Response Time : N.A Think Time : N.A Minimum Instruction Time : 0

Correct Marks : 5 Wrong Marks : 1

Question Key Details :

| Key           | Value |
|---------------|-------|
| Comprehension | MCQ   |

प्रभावती गुप्त कोणाची मुलगी होती?

1. चंद्रगुप्त दुसरा
2. समुद्रगुप्त
3. चंद्रगुप्त मौर्य
4. स्कंदगुप्त

Options :

485584145969. 1  
485584145970. 2  
485584145971. 3  
485584145972. 4

Question Number : 109 Question Id : 48558436494 Question Type : MCQ Option Shuffling : No Is Question Mandatory : No Calculator : None Response Time : N.A Think Time : N.A Minimum Instruction Time : 0

Correct Marks : 5 Wrong Marks : 1

Question Key Details :

| Key           | Value |
|---------------|-------|
| Comprehension | MCQ   |

Which of the following statements are correct?

- A. The Dharmasutras and Dharmashastras recognised as many as twelve forms of marriages.
- B. People were classified into gotras and each gotra was named after a Vedic seer.
- C. Jatis, which shared a common occupation, were sometimes organised into shrenis or guilds.
- D. Women were allowed to retain the gifts they received on their marriage as 'Stridhana' to be inherited by their children.
- E. Matriliney is the term used when descent is traced through the mother.

Choose the correct answer from the options given below:

- 1. A, B, C, E only
- 2. A, C, D, E only
- 3. B, C, D, E only
- 4. A, B, D, E only

Options :

- 485584145973. 1
- 485584145974. 2
- 485584145975. 3
- 485584145976. 4

Question Number : 109 Question Id : 48558436494 Question Type : MCQ Option Shuffling : No Is Question Mandatory : No Calculator : None Response Time : N.A Think Time : N.A Minimum Instruction Time : 0

Correct Marks : 5 Wrong Marks : 1

Question Key Details :

| Key           | Value |
|---------------|-------|
| Comprehension | MCQ   |

खालीलपैकी कोणती विधाने बरोबर आहेत?

- A. धर्मसूत्र आणि धर्मशास्त्रानुसार विवाहाचे 12 प्रकार आहेत.
- B. लोकांचे गोत्रात विभाजन केले जाई व प्रत्येक गोत्राला वैदिक ऋषींचे नाव दिले जाई.
- C. जाति, समान व्यवसाय असणाऱ्यांचा गट श्रेणी किंवा संघटनेत संघटित केला जाई.
- D. लग्नात भेट रूपाने मिळालेल्या वस्तूंचा सिध्दान्त म्हणून मालकी हक्क असे. ते त्यांच्या मुलांना वारशात मिळत असे.
- E. वंशावळ आईच्या पूर्वजांच्या माध्यमातून शोधली जाते तेव्हा 'मातृवंशीय' ही संज्ञा वापरली जाते.

खाली दिलेल्या पर्यायांमधून योग्य उत्तर निवडा:

- 1. A, B, C, E फक्त
- 2. A, C, D, E फक्त
- 3. B, C, D, E फक्त
- 4. A, B, D, E फक्त

Options :

- 485584145973. 1
- 485584145974. 2
- 485584145975. 3
- 485584145976. 4

Question Number : 110 Question Id : 48558436495 Question Type : MCQ Option Shuffling : No Is Question Mandatory : No Calculator : None Response Time : N.A Think Time : N.A Minimum Instruction Time : 0

Correct Marks : 5 Wrong Marks : 1

**Question Key Details :**

| Key           | Value |
|---------------|-------|
| Comprehension | MCQ   |

What did Ibn Battuta observe when he visited the city of Delhi?

- A. Its beautiful temple architecture in every part of the city.
- B. Its fine cemetery with domes and arches.
- C. Its imposing stupa in the heart of the city.
- D. Its twenty-eight big darwazas.
- E. Its many waterfalls within the city.

Choose the correct answer from the options given below:

- 1. A, B only
- 2. C, D only
- 3. B, D only
- 4. D, E only

**Options :**

- 485584145977. 1
- 485584145978. 2
- 485584145979. 3
- 485584145980. 4

Question Number : 110 Question Id : 48558436495 Question Type : MCQ Option Shuffling : No Is Question Mandatory : No Calculator : None Response Time : N.A Think Time : N.A Minimum Instruction Time : 0

Correct Marks : 5 Wrong Marks : 1

**Question Key Details :**

| Key           | Value |
|---------------|-------|
| Comprehension | MCQ   |

दिल्ली शहराला भेट दिली तेव्हा इब्र बतुता याने त्याबाबत कोणते निरीक्षण नोंदवले?

- A. शहराच्या प्रत्येक विभागात असलेले सुंदर मंदिर स्थापत्य.
- B. घुमट आणि कमानी असणाऱ्या सुबक दफनभूमी.
- C. शहराच्या मध्यभागी असणारा स्तूप.
- D. शहराचे 28 मोठे दरवाजे.
- E. शहरात असणारे अनेक धबधबे.

खाली दिलेल्या पर्यायांमधून योग्य उत्तर निवडा:

- 1. A आणि B फक्त
- 2. C आणि D फक्त
- 3. B आणि D फक्त
- 4. D आणि E फक्त

**Options :**

- 485584145977. 1
- 485584145978. 2
- 485584145979. 3
- 485584145980. 4

Question Number : 111 Question Id : 48558436496 Question Type : MCQ Option Shuffling : No Is Question Mandatory : No Calculator : None Response Time : N.A Think Time : N.A Minimum Instruction Time : 0

Correct Marks : 5 Wrong Marks : 1



**Question Key Details :**

|               |              |
|---------------|--------------|
| <b>Key</b>    | <b>Value</b> |
| Comprehension | MCQ          |

Match List I with List II:

| LIST I<br>(Traders) |                 | LIST II<br>(Countries) |          |
|---------------------|-----------------|------------------------|----------|
| A.                  | Nicolo de Conti | I.                     | England  |
| B.                  | Duarte Barbosa  | II.                    | Italy    |
| C.                  | Peter Mundy     | III.                   | Russia   |
| D.                  | Afanasi Nikitin | IV.                    | Portugal |

Choose the correct answer from the options given below:

1. A-II, B-I, C-III, D-IV
2. A-II, B-III, C-IV, D-I
3. A-IV, B-III, C-II, D-I
4. A-II, B-IV, C-I, D-III

**Options :**

485584145981. 1  
485584145982. 2  
485584145983. 3  
485584145984. 4

**Question Number : 111 Question Id : 48558436496 Question Type : MCQ Option Shuffling : No Is Question Mandatory : No Calculator : None Response Time : N.A Think Time : N.A Minimum Instruction Time : 0**

**Correct Marks : 5 Wrong Marks : 1**

**Question Key Details :**

|               |              |
|---------------|--------------|
| <b>Key</b>    | <b>Value</b> |
| Comprehension | MCQ          |

यादी I व यादी II मधील योग्य जोड्या जुळवा:-

| यादी I |                    | यादी II |           |
|--------|--------------------|---------|-----------|
| A.     | निकोलो डी कॉन्टी   | I.      | इंग्लंड   |
| B.     | ड्युआर्टे बार्बोसा | II.     | इटली      |
| C.     | पॅटर मंडी          | III.    | रशिया     |
| D.     | अफनासी निकितिन     | IV.     | पोर्तुगाल |

खाली दिलेल्या पर्यायांमधून योग्य उत्तर निवडा:

1. A-II, B-I, C-III, D-IV
2. A-II, B-III, C-IV, D-I
3. A-IV, B-III, C-II, D-I
4. A-II, B-IV, C-I, D-III

**Options :**

485584145981. 1  
485584145982. 2  
485584145983. 3  
485584145984. 4

**Question Number : 112 Question Id : 48558436497 Question Type : MCQ Option Shuffling : No Is Question Mandatory : No Calculator : None Response Time : N.A Think Time : N.A Minimum Instruction Time : 0**

Correct Marks : 5 Wrong Marks : 1

Question Key Details :

| Key           | Value |
|---------------|-------|
| Comprehension | MCQ   |

Match List I with List II:

| LIST I |            | LIST II |                          |
|--------|------------|---------|--------------------------|
| A.     | Alvars     | I.      | Bijak                    |
| B.     | Virashaiva | II.     | Tevaram                  |
| C.     | Nayanars   | III.    | Nalavira Divyaprabandham |
| D.     | Kabir      | IV.     | Vachanas                 |

Choose the correct answer from the options given below:

1. A-I, B-IV, C-III, D-II
2. A-III, B-IV, C-II, D-I
3. A-II, B-I, C-III, D-IV
4. A-IV, B-III, C-I, D-II

Options :

485584145985. 1  
485584145986. 2  
485584145987. 3  
485584145988. 4

Question Number : 112 Question Id : 48558436497 Question Type : MCQ Option Shuffling : No Is Question Mandatory : No Calculator : None Response Time : N.A Think Time : N.A Minimum Instruction Time : 0

Correct Marks : 5 Wrong Marks : 1

Question Key Details :

| Key           | Value |
|---------------|-------|
| Comprehension | MCQ   |

यादी I व यादी II योग्य जोडवा जुळवा:-

| यादी I |        | यादी II |                    |
|--------|--------|---------|--------------------|
| A.     | अलवार  | I.      | बीजक               |
| B.     | वीरशैव | II.     | तेवराम             |
| C.     | नयनार  | III.    | नलवीर दिव्यप्रबंधम |
| D.     | काबीर  | IV.     | वचन                |

खाली दिलेल्या पर्यायांमधून योग्य उत्तर निवडा:

1. A-I, B-IV, C-III, D-II
2. A-III, B-IV, C-II, D-I
3. A-II, B-I, C-III, D-IV
4. A-IV, B-III, C-I, D-II

Options :

485584145985. 1  
485584145986. 2  
485584145987. 3  
485584145988. 4

Question Number : 113 Question Id : 48558436498 Question Type : MCQ Option Shuffling : No Is Question Mandatory : No Calculator : None Response Time : N.A Think Time : N.A Minimum Instruction Time : 0

Correct Marks : 5 Wrong Marks : 1

Question Key Details :

| Key           | Value |
|---------------|-------|
| Comprehension | MCQ   |

Match List I with List II:

| LIST I<br>(Sufi Teachers) |                          | LIST II<br>(Year of Death) |      |
|---------------------------|--------------------------|----------------------------|------|
| A.                        | Munaddin Sijzi           | I.                         | 1265 |
| B.                        | Fariduddin Ganj-i-Shakar | II.                        | 1235 |
| C.                        | Nizamuddin Auliya        | III.                       | 1356 |
| D.                        | Nasiruddin Chirag        | IV.                        | 1325 |

Choose the correct answer from the options given below:

1. A-II, B-III, C-I, D-IV
2. A-I, B-II, C-III, D-IV
3. A-II, B-I, C-IV, D-III
4. A-IV, B-III, C-I, D-II

Options :

485584145989. 1  
485584145990. 2  
485584145991. 3  
485584145992. 4

Question Number : 113 Question Id : 48558436498 Question Type : MCQ Option Shuffling : No Is Question Mandatory : No Calculator : None Response Time : N.A Think Time : N.A Minimum Instruction Time : 0

Correct Marks : 5 Wrong Marks : 1

Question Key Details :

| Key           | Value |
|---------------|-------|
| Comprehension | MCQ   |

यादी I व यादी II योग्य जोड्या जुळवा:-

| यादी I<br>(सुफी उपदेशक) |                    | यादी II<br>(मृत्यूचे वर्ष) |      |
|-------------------------|--------------------|----------------------------|------|
| A.                      | मिनुद्दीन सिकजी    | I.                         | 1265 |
| B.                      | फरीदुद्दीन गंजेशकर | II.                        | 1235 |
| C.                      | निजामुद्दीन औलिया  | III.                       | 1356 |
| D.                      | नासिरुद्दीन चिराग  | IV.                        | 1325 |

खाली दिलेल्या पर्यायांमधून योग्य उत्तर निवडा:

1. A-II, B-III, C-I, D-IV
2. A-I, B-II, C-III, D-IV
3. A-II, B-I, C-IV, D-III
4. A-IV, B-III, C-I, D-II

Options :

485584145989. 1  
485584145990. 2  
485584145991. 3  
485584145992. 4

Question Number : 114 Question Id : 48558436499 Question Type : MCQ Option Shuffling : No Is Question Mandatory : No Calculator : None Response Time : N.A Think Time : N.A Minimum Instruction Time : 0

Correct Marks : 5 Wrong Marks : 1

Question Key Details :

| Key           | Value |
|---------------|-------|
| Comprehension | MCQ   |

Choose the incorrect statement out of the following:

1. Guru Nanak rejected the sacrifices and rituals of both Hindus and Muslims.
2. Guru Nanak did not wish to establish his own new religion.
3. Guru Nanak advocated the form of Nirguna Bhakti.
4. Guru Nanak appointed one his disciple 'Angad' to succeed him as the perceptor.

Options :

485584145993. 1

485584145994. 2

485584145995. 3

485584145996. 4

Question Number : 114 Question Id : 48558436499 Question Type : MCQ Option Shuffling : No Is Question Mandatory : No Calculator : None Response Time : N.A Think Time : N.A Minimum Instruction Time : 0

Correct Marks : 5 Wrong Marks : 1

Question Key Details :

| Key           | Value |
|---------------|-------|
| Comprehension | MCQ   |

खाली दिलेल्या विधानांमधून चुकीचे विधान निवडा.

1. गुरू-नानक यांनी हिंदू व मुस्लिम दोन्ही धर्मातील कर्मकांड व विधी यांचा विरोध केला.
2. गुरू नानक यांना स्वतःचा नवा धर्म स्थापण्याची इच्छा नव्हती.
3. गुरू नानक यांनी निर्गुण भक्तीचा पुरस्कार केला.
4. गुरू नानक यांनी आपला एक शिष्य 'अंगद' याची त्यांच्या नंतरचा उपदेशक म्हणून नेमणूक केली.

Options :

485584145993. 1

485584145994. 2

485584145995. 3

485584145996. 4

Question Number : 115 Question Id : 48558436500 Question Type : MCQ Option Shuffling : No Is Question Mandatory : No Calculator : None Response Time : N.A Think Time : N.A Minimum Instruction Time : 0

Correct Marks : 5 Wrong Marks : 1

Question Key Details :

| Key           | Value |
|---------------|-------|
| Comprehension | MCQ   |

Chronologically arrange the landmark events in the discovery of Vijayanagara.

- A. Conservation under John Marshall.
- B. Documentation of temple inscriptions by J.F. Fleet.
- C. Survey of Vijayanagara by Colin Mackenzie.
- D. Status of world heritage site by UNESCO.
- E. Photography of the archaeological site under Alexander Greenlaw.

Choose the correct answer from the options given below:

1. C, E, B, A, D
2. B, D, A, E, C
3. C, D, A, B, E
4. E, A, C, D, B

**Options :**

485584145997. 1  
485584145998. 2  
485584145999. 3  
485584146000. 4

**Question Number : 115 Question Id : 48558436500 Question Type : MCQ Option Shuffling : No Is Question Mandatory : No Calculator : None Response Time : N.A Think Time : N.A Minimum Instruction Time : 0**

**Correct Marks : 5 Wrong Marks : 1**

**Question Key Details :**

| Key           | Value |
|---------------|-------|
| Comprehension | MCQ   |

विजयनगर साम्राज्याच्या शोधातील महत्त्वाच्या घटना कालानुक्रमे योग्य क्रमाने मांडा.

- A. जॉन मार्शल यांच्या नेतृत्वाखाली जतन व संवर्धन.
- B. जे. एफ. फ्लीट यांच्या द्वारा मंदिरातील शिलालेखांचे अभिलेख तयार केले गेले.
- C. कॉलिन मॅकेन्झी यांनी केलेले विजयनगरचे सर्वेक्षण.
- D. युनेस्कोकडून 'जागतिक वारसा दर्जा' घोषित.
- E. अलेक्झांडर ग्रीनलॉ यांनी उत्खननस्थळाचे केलेले चित्रीकरण (फोटोग्राफी)

खाली दिलेल्या पर्यायांमधून योग्य उत्तर निवडा:

1. C, E, B, A, D
2. B, D, A, E, C
3. C, D, A, B, E
4. E, A, C, D, B

**Options :**

485584145997. 1  
485584145998. 2  
485584145999. 3  
485584146000. 4

**Question Number : 116 Question Id : 48558436501 Question Type : MCQ Option Shuffling : No Is Question Mandatory : No Calculator : None Response Time : N.A Think Time : N.A Minimum Instruction Time : 0**

**Correct Marks : 5 Wrong Marks : 1**

**Question Key Details :**

| Key           | Value |
|---------------|-------|
| Comprehension | MCQ   |

Arrange the following dynasties in a chronological order.

- A. Tuluva dynasty
- B. Saluva dynasty
- C. Aravida dynasty
- D. Sangama dynasty

Choose the correct answer from the options given below:

- 1. A, B, C, D
- 2. A, B, D, C
- 3. C, D, A, B
- 4. D, B, A, C

**Options :**

- 485584146001. 1
- 485584146002. 2
- 485584146003. 3
- 485584146004. 4

**Question Number : 116 Question Id : 48558436501 Question Type : MCQ Option Shuffling : No Is Question Mandatory : No Calculator : None Response Time : N.A Think Time : N.A Minimum Instruction Time : 0**

**Correct Marks : 5 Wrong Marks : 1**

**Question Key Details :**

| Key           | Value |
|---------------|-------|
| Comprehension | MCQ   |

खालील घराणी कालानुक्रमे योग्य क्रमाने मांडा.

- A. तुळुव घराणे
- B. सलुव घराणे
- C. अरविदू घराणे
- D. संगम घराणे

खाली दिलेल्या पर्यायांमधून योग्य उत्तर निवडा.

- 1. A, B, C, D
- 2. A, B, D, C
- 3. C, D, A, B
- 4. D, B, A, C

**Options :**

- 485584146001. 1
- 485584146002. 2
- 485584146003. 3
- 485584146004. 4

**Question Number : 117 Question Id : 48558436502 Question Type : MCQ Option Shuffling : No Is Question Mandatory : No Calculator : None Response Time : N.A Think Time : N.A Minimum Instruction Time : 0**

**Correct Marks : 5 Wrong Marks : 1**

**Question Key Details :**

| Key           | Value |
|---------------|-------|
| Comprehension | MCQ   |

What is a 'Gopuram' in the context of Vijayanagara Empire?

1. Mandapa
2. Platform
3. Shrine
4. Gateway

**Options :**

485584146005. 1  
485584146006. 2  
485584146007. 3  
485584146008. 4

**Question Number : 117 Question Id : 48558436502 Question Type : MCQ Option Shuffling : No Is Question Mandatory : No Calculator : None Response Time : N.A Think Time : N.A Minimum Instruction Time : 0**

**Correct Marks : 5 Wrong Marks : 1**

**Question Key Details :**

| Key           | Value |
|---------------|-------|
| Comprehension | MCQ   |

विजयनगर साम्राज्याच्या संदर्भात 'गोपुरम' काय आहे?

1. मंडप
2. व्यासपीठ
3. समाधी
4. मार्ग

**Options :**

485584146005. 1  
485584146006. 2  
485584146007. 3  
485584146008. 4

**Question Number : 118 Question Id : 48558436503 Question Type : MCQ Option Shuffling : No Is Question Mandatory : No Calculator : None Response Time : N.A Think Time : N.A Minimum Instruction Time : 0**

**Correct Marks : 5 Wrong Marks : 1**

**Question Key Details :**

| Key           | Value |
|---------------|-------|
| Comprehension | MCQ   |

Vijayanagara kings claimed to rule on behalf of the God \_\_\_\_\_.

1. Pampadevi
2. Virupaksha
3. Vitthala
4. Rama

**Options :**

485584146009. 1  
485584146010. 2  
485584146011. 3  
485584146012. 4

Question Number : 118 Question Id : 48558436503 Question Type : MCQ Option Shuffling : No Is Question Mandatory : No Calculator : None Response Time : N.A Think Time : N.A Minimum Instruction Time : 0

Correct Marks : 5 Wrong Marks : 1

Question Key Details :

| Key           | Value |
|---------------|-------|
| Comprehension | MCQ   |

विजयनगर राजे \_\_\_\_\_ या देवतेच्या वतीने राज्य करत असल्याचा दावा करत.

1. पंमादेवी
2. विरुपाक्ष
3. विठ्ठल
4. राम

Options :

485584146009. 1  
485584146010. 2  
485584146011. 3  
485584146012. 4

Question Number : 119 Question Id : 48558436504 Question Type : MCQ Option Shuffling : No Is Question Mandatory : No Calculator : None Response Time : N.A Think Time : N.A Minimum Instruction Time : 0

Correct Marks : 5 Wrong Marks : 1

Question Key Details :

| Key           | Value |
|---------------|-------|
| Comprehension | MCQ   |

The Vijayanagara Empire was known to its contemporaries as \_\_\_\_\_.

1. Maharashtra Samrajyannu
2. Andhra Samrajyannu
3. Tamil Samrajyannu
4. Karnataka Samrajyannu

Options :

485584146013. 1  
485584146014. 2  
485584146015. 3  
485584146016. 4

Question Number : 119 Question Id : 48558436504 Question Type : MCQ Option Shuffling : No Is Question Mandatory : No Calculator : None Response Time : N.A Think Time : N.A Minimum Instruction Time : 0

Correct Marks : 5 Wrong Marks : 1

Question Key Details :

| Key           | Value |
|---------------|-------|
| Comprehension | MCQ   |



विजयनगर साम्राज्य त्यांच्या समकालीनांना \_\_\_\_\_ म्हणून ज्ञात होते.

1. महाराष्ट्र साम्राज्य
2. आंध्र साम्राज्य
3. तमिळ साम्राज्य
4. कर्नाटक साम्राज्य

**Options :**

485584146013. 1  
485584146014. 2  
485584146015. 3  
485584146016. 4

**Question Number : 120 Question Id : 48558436505 Question Type : MCQ Option Shuffling : No Is Question Mandatory : No Calculator : None Response Time : N.A Think Time : N.A Minimum Instruction Time : 0**

**Correct Marks : 5 Wrong Marks : 1**

**Question Key Details :**

| Key           | Value |
|---------------|-------|
| Comprehension | MCQ   |

In the 17th century, Indo-Persian sources, the term for non-resident cultivators, who belonged to some other village but cultivated land elsewhere on contractual basis, were known as \_\_\_\_\_.

1. Khud-Kashta
2. Pahi-Kashta
3. Muqaddam
4. Muzarian

**Options :**

485584146017. 1  
485584146018. 2  
485584146019. 3  
485584146020. 4

**Question Number : 120 Question Id : 48558436505 Question Type : MCQ Option Shuffling : No Is Question Mandatory : No Calculator : None Response Time : N.A Think Time : N.A Minimum Instruction Time : 0**

**Correct Marks : 5 Wrong Marks : 1**

**Question Key Details :**

| Key           | Value |
|---------------|-------|
| Comprehension | MCQ   |

17 व्या शतकातील पर्शियन संदर्भ साधनांनुसार, एखाद्या गावात न राहणाऱ्या किंवा स्थानिक नसलेल्या शेतकऱ्यांसाठी, जे दुसऱ्या एखाद्या गावातून येवून इतरत्र कंत्राटी पद्धतीने जमीन कसत असत, अशांसाठी ही संज्ञा वापरली आहे.

1. खुद कशता
2. पही कशता
3. मुकादम
4. मुझरीन

**Options :**

485584146017. 1

485584146018. 2  
485584146019. 3  
485584146020. 4

**Question Number : 121 Question Id : 48558436506 Question Type : MCQ Option Shuffling : No Is Question Mandatory : No Calculator : None Response Time : N.A Think Time : N.A Minimum Instruction Time : 0 Correct Marks : 5 Wrong Marks : 1**

**Question Key Details :**

| Key           | Value |
|---------------|-------|
| Comprehension | MCQ   |

Identify the correct sequence of the chronicles written during the Mughal period.

- A. Akbar Nama
- B. Alauddin Nama
- C. Char Chaman
- D. Jahangir Nama
- E. Humayun Nama

Choose the correct answer from the options given below:

- 1. A, C, B, D, E
- 2. A, D, B, C, E
- 3. E, A, B, D, C
- 4. E, A, D, C, B

**Options :**

485584146021. 1  
485584146022. 2  
485584146023. 3  
485584146024. 4

**Question Number : 121 Question Id : 48558436506 Question Type : MCQ Option Shuffling : No Is Question Mandatory : No Calculator : None Response Time : N.A Think Time : N.A Minimum Instruction Time : 0 Correct Marks : 5 Wrong Marks : 1**

**Question Key Details :**

| Key           | Value |
|---------------|-------|
| Comprehension | MCQ   |

मुघलकालाखंडातील लिखित अभिलेखांचा कालानुक्रमे योग्य क्रम ओळखा -

- A. अकबरनामा
- B. आलमगीर नामा
- C. चार चमन
- D. जहांगीरनामा
- E. हुमायूनामा

खाली दिलेल्या पर्यायांमधून योग्य उत्तर निवडा.

- 1. A, C, B, D, E
- 2. A, D, B, C, E
- 3. E, A, B, D, C
- 4. E, A, D, C, B

**Options :**

485584146021. 1

485584146022. 2  
485584146023. 3  
485584146024. 4

**Question Number : 122 Question Id : 48558436507 Question Type : MCQ Option Shuffling : No Is Question Mandatory : No Calculator : None Response Time : N.A Think Time : N.A Minimum Instruction Time : 0**  
**Correct Marks : 5 Wrong Marks : 1**

**Question Key Details :**

| Key           | Value |
|---------------|-------|
| Comprehension | MCQ   |

Which minister looked after the finances in the Mughal Empire?

1. Sadr-us-Sadr
2. Diwan-i-Ala
3. Mir Bakshi
4. Mir Saman

**Options :**

485584146025. 1  
485584146026. 2  
485584146027. 3  
485584146028. 4

**Question Number : 122 Question Id : 48558436507 Question Type : MCQ Option Shuffling : No Is Question Mandatory : No Calculator : None Response Time : N.A Think Time : N.A Minimum Instruction Time : 0**  
**Correct Marks : 5 Wrong Marks : 1**

**Question Key Details :**

| Key           | Value |
|---------------|-------|
| Comprehension | MCQ   |

मुघलसाम्राज्यात कोणत्या मंत्र्याकडे अर्थविषयक कारभार होता?

1. सद्र उस सदूर
2. दिवाण ए अला
3. मीर बक्षी
4. मीर सामान

**Options :**

485584146025. 1  
485584146026. 2  
485584146027. 3  
485584146028. 4

**Question Number : 123 Question Id : 48558436508 Question Type : MCQ Option Shuffling : No Is Question Mandatory : No Calculator : None Response Time : N.A Think Time : N.A Minimum Instruction Time : 0**  
**Correct Marks : 5 Wrong Marks : 1**

**Question Key Details :**

| Key           | Value |
|---------------|-------|
| Comprehension | MCQ   |

Whom did Akbar honour with the title "Zarrin qalam"?

1. Muhammad Husayn
2. Abul Hasan
3. Payag
4. Abdul Hamid Lahori

**Options :**

485584146029. 1  
485584146030. 2  
485584146031. 3  
485584146032. 4

**Question Number : 123 Question Id : 48558436508 Question Type : MCQ Option Shuffling : No Is Question Mandatory : No Calculator : None Response Time : N.A Think Time : N.A Minimum Instruction Time : 0**

**Correct Marks : 5 Wrong Marks : 1**

**Question Key Details :**

| Key           | Value |
|---------------|-------|
| Comprehension | MCQ   |

अकबर ने कुणाला "ज़रीन कलाम" हा खिताब दिला ?

1. मुहम्मद हुसेन
2. अबुल हसन
3. पयाग
4. अब्दुल हमीद लाहौरी

**Options :**

485584146029. 1  
485584146030. 2  
485584146031. 3  
485584146032. 4

**Question Number : 124 Question Id : 48558436509 Question Type : MCQ Option Shuffling : No Is Question Mandatory : No Calculator : None Response Time : N.A Think Time : N.A Minimum Instruction Time : 0**

**Correct Marks : 5 Wrong Marks : 1**

**Question Key Details :**

| Key           | Value |
|---------------|-------|
| Comprehension | MCQ   |

The Permanent Settlement came into operation in \_\_\_\_\_.

1. 1864
2. 1757
3. 1793
4. 1800

**Options :**

485584146033. 1  
485584146034. 2  
485584146035. 3  
485584146036. 4

Question Number : 124 Question Id : 48558436509 Question Type : MCQ Option Shuffling : No Is Question Mandatory : No Calculator : None Response Time : N.A Think Time : N.A Minimum Instruction Time : 0

Correct Marks : 5 Wrong Marks : 1

Question Key Details :

| Key           | Value |
|---------------|-------|
| Comprehension | MCQ   |

कायमधारा पद्धतीच्या वापरास सुरुवात \_\_\_\_\_ साली झाली.

1. 1864

2. 1757

3. 1793

4. 1800

Options :

485584146033. 1

485584146034. 2

485584146035. 3

485584146036. 4

Question Number : 125 Question Id : 48558436510 Question Type : MCQ Option Shuffling : No Is Question Mandatory : No Calculator : None Response Time : N.A Think Time : N.A Minimum Instruction Time : 0

Correct Marks : 5 Wrong Marks : 1

Question Key Details :

| Key           | Value |
|---------------|-------|
| Comprehension | MCQ   |

The Manchester Cotton Company was formed in the year \_\_\_\_\_.

1. 1857

2. 1858

3. 1859

4. 1860

Options :

485584146037. 1

485584146038. 2

485584146039. 3

485584146040. 4

Question Number : 125 Question Id : 48558436510 Question Type : MCQ Option Shuffling : No Is Question Mandatory : No Calculator : None Response Time : N.A Think Time : N.A Minimum Instruction Time : 0

Correct Marks : 5 Wrong Marks : 1

Question Key Details :

| Key           | Value |
|---------------|-------|
| Comprehension | MCQ   |

मॅचेस्टर कॉटन कंपनीची स्थापना \_\_\_\_\_ साली झाली.

1. 1857
2. 1858
3. 1859
4. 1860

**Options :**

485584146037. 1
485584146038. 2
485584146039. 3
485584146040. 4

**Question Number : 126 Question Id : 48558436511 Question Type : MCQ Option Shuffling : No Is Question Mandatory : No Calculator : None Response Time : N.A Think Time : N.A Minimum Instruction Time : 0**

**Correct Marks : 5 Wrong Marks : 1**

**Question Key Details :**

| Key           | Value |
|---------------|-------|
| Comprehension | MCQ   |

Before the age of railway, the town of Mirzapur was a collection centre for cotton from which area?

1. Punjab
2. Tamil Nadu
3. Gujarat
4. Deccan

**Options :**

485584146041. 1
485584146042. 2
485584146043. 3
485584146044. 4

**Question Number : 126 Question Id : 48558436511 Question Type : MCQ Option Shuffling : No Is Question Mandatory : No Calculator : None Response Time : N.A Think Time : N.A Minimum Instruction Time : 0**

**Correct Marks : 5 Wrong Marks : 1**

**Question Key Details :**

| Key           | Value |
|---------------|-------|
| Comprehension | MCQ   |

रेल्वे घुग सुरू होण्यापूर्वी मिर्झापूर शहर कोणत्या क्षेत्रातील कापूस गोळा करण्याचे केंद्र होते?

1. पंजाब
2. तमिळनाडू
3. गुजरात
4. दख्खन

**Options :**

485584146041. 1
485584146042. 2
485584146043. 3
485584146044. 4

Question Number : 127 Question Id : 48558436512 Question Type : MCQ Option Shuffling : No Is Question Mandatory : No Calculator : None Response Time : N.A Think Time : N.A Minimum Instruction Time : 0

Correct Marks : 5 Wrong Marks : 1

Question Key Details :

| Key           | Value |
|---------------|-------|
| Comprehension | MCQ   |

Satyajit Ray's film 'Jalsaghar' dealt with the subject matter of \_\_\_\_\_.

1. India's freedom struggle.
2. The decline of the aristocratic zamindari style of living.
3. Revolt of 1857.
4. Swadeshi Movement in Bengal.

Options :

485584146045. 1  
485584146046. 2  
485584146047. 3  
485584146048. 4

Question Number : 127 Question Id : 48558436512 Question Type : MCQ Option Shuffling : No Is Question Mandatory : No Calculator : None Response Time : N.A Think Time : N.A Minimum Instruction Time : 0

Correct Marks : 5 Wrong Marks : 1

Question Key Details :

| Key           | Value |
|---------------|-------|
| Comprehension | MCQ   |

सत्यजित रे यांचा 'जलसाघर' हा चित्रपट कोणत्या विषयाशी संबंधित आहे?

1. भारतीय स्वातंत्र्यलढा
2. जमीनदारी जीवनशैलीचा न्हास
3. 1857 चा उठाव
4. बंगालमधील स्वदेशी चळवळ

Options :

485584146045. 1  
485584146046. 2  
485584146047. 3  
485584146048. 4

Question Number : 128 Question Id : 48558436513 Question Type : MCQ Option Shuffling : No Is Question Mandatory : No Calculator : None Response Time : N.A Think Time : N.A Minimum Instruction Time : 0

Correct Marks : 5 Wrong Marks : 1

Question Key Details :

| Key           | Value |
|---------------|-------|
| Comprehension | MCQ   |

Who organised the zoo which later on became the Calcutta Alipore Zoo?

1. Francis Buchanan
2. Augustus Cornwallis
3. Charles Cornwallis
4. Maharaja Mehtab Chand

**Options :**

485584146049. 1  
485584146050. 2  
485584146051. 3  
485584146052. 4

**Question Number : 128 Question Id : 48558436513 Question Type : MCQ Option Shuffling : No Is Question Mandatory : No Calculator : None Response Time : N.A Think Time : N.A Minimum Instruction Time : 0**

**Correct Marks : 5 Wrong Marks : 1**

**Question Key Details :**

| Key           | Value |
|---------------|-------|
| Comprehension | MCQ   |

नंतर कलकत्ता अलीपूर प्राणी संग्रहालय बनलेल्या प्राणी संग्रहालयाची सुरुवात कोणी केली?

1. फ्रँको बुखानन
2. ऑगस्टस कॉर्नवॉलिस
3. चार्ल्स कॉर्नवॉलिस
4. महाराज मेहताब चांद

**Options :**

485584146049. 1  
485584146050. 2  
485584146051. 3  
485584146052. 4

**Question Number : 129 Question Id : 48558436514 Question Type : MCQ Option Shuffling : No Is Question Mandatory : No Calculator : None Response Time : N.A Think Time : N.A Minimum Instruction Time : 0**

**Correct Marks : 5 Wrong Marks : 1**

**Question Key Details :**

| Key           | Value |
|---------------|-------|
| Comprehension | MCQ   |

Where is 'Borah Bazaar' located?

1. Madras
2. Bombay
3. Lucknow
4. Shimla

**Options :**

485584146053. 1  
485584146054. 2  
485584146055. 3  
485584146056. 4



Question Number : 129 Question Id : 48558436514 Question Type : MCQ Option Shuffling : No Is Question Mandatory : No Calculator : None Response Time : N.A Think Time : N.A Minimum Instruction Time : 0

Correct Marks : 5 Wrong Marks : 1

Question Key Details :

| Key           | Value |
|---------------|-------|
| Comprehension | MCQ   |

बोरा बझार कुठे स्थित आहे?

1. मद्रास
2. मुंबई
3. लखनौ
4. शिमला

Options :

485584146053. 1  
485584146054. 2  
485584146055. 3  
485584146056. 4

Question Number : 130 Question Id : 48558436515 Question Type : MCQ Option Shuffling : No Is Question Mandatory : No Calculator : None Response Time : N.A Think Time : N.A Minimum Instruction Time : 0

Correct Marks : 5 Wrong Marks : 1

Question Key Details :

| Key           | Value |
|---------------|-------|
| Comprehension | MCQ   |

Name the historian who remarked that South Africa was "the making of Mahatma".

1. Lala Lajpat Rai
2. Bal Gangadhar Tilak
3. Chandran Devanesan
4. Abindranath Tagore

Options :

485584146057. 1  
485584146058. 2  
485584146059. 3  
485584146060. 4

Question Number : 130 Question Id : 48558436515 Question Type : MCQ Option Shuffling : No Is Question Mandatory : No Calculator : None Response Time : N.A Think Time : N.A Minimum Instruction Time : 0

Correct Marks : 5 Wrong Marks : 1

Question Key Details :

| Key           | Value |
|---------------|-------|
| Comprehension | MCQ   |

कोंणत्या इतिहासकाराने साऊथ आफ्रिकेचा "द मेकिंग ऑफ महात्मा" असा निर्देश केला आहे?

1. लाला लाजपतराय
2. बाल गंगाधर टिळक
3. चंद्रन देवनेसन
4. अबिंद्रनाथ टागोर

**Options :**

485584146057. 1  
485584146058. 2  
485584146059. 3  
485584146060. 4

**Question Number : 131 Question Id : 48558436516 Question Type : MCQ Option Shuffling : No Is Question Mandatory : No Calculator : None Response Time : N.A Think Time : N.A Minimum Instruction Time : 0**

**Correct Marks : 5 Wrong Marks : 1**

**Question Key Details :**

| Key           | Value |
|---------------|-------|
| Comprehension | MCQ   |

Who from among the following nationalist leaders belonged to the group of Moderates?

1. Bipin Chandra Pal
2. Bal Gangadhar Tilak
3. Gopal Krishna Gokhale
4. Chandrashekhar Azad

**Options :**

485584146061. 1  
485584146062. 2  
485584146063. 3  
485584146064. 4

**Question Number : 131 Question Id : 48558436516 Question Type : MCQ Option Shuffling : No Is Question Mandatory : No Calculator : None Response Time : N.A Think Time : N.A Minimum Instruction Time : 0**

**Correct Marks : 5 Wrong Marks : 1**

**Question Key Details :**

| Key           | Value |
|---------------|-------|
| Comprehension | MCQ   |

खालीलपैकी कोणता राष्ट्रीय नेता 'मवाळ' म्हणून ओळखला जातो?

1. बिपिनचंद्र पाल
2. बाल गंगाधर टिळक
3. गोपाल कृष्ण गोखले
4. चंद्रशेखर आझाद

**Options :**

485584146061. 1  
485584146062. 2  
485584146063. 3

Question Number : 132 Question Id : 48558436517 Question Type : MCQ Option Shuffling : No Is Question Mandatory : No Calculator : None Response Time : N.A Think Time : N.A Minimum Instruction Time : 0  
Correct Marks : 5 Wrong Marks : 1

Question Key Details :

| Key           | Value |
|---------------|-------|
| Comprehension | MCQ   |

Who amongst the following were close associates of Gandhi in the years 1917-1922?

- A. Vallabhbhai Patel
- B. Subhas Chandra Bose
- C. Annie Besant
- D. Govind Ballabh Pant
- E. B.R. Ambedkar

Choose the correct answer from the options given below:

- 1. A, C, E only
- 2. A, B, E only
- 3. B, D, C only
- 4. A, B, D only

Options :

- 485584146065. 1
- 485584146066. 2
- 485584146067. 3
- 485584146068. 4

Question Number : 132 Question Id : 48558436517 Question Type : MCQ Option Shuffling : No Is Question Mandatory : No Calculator : None Response Time : N.A Think Time : N.A Minimum Instruction Time : 0  
Correct Marks : 5 Wrong Marks : 1

Question Key Details :

| Key           | Value |
|---------------|-------|
| Comprehension | MCQ   |

1917 ते 1922 या कालखंडात खालीलपैकी कोण गांधीजींचे जवळचे सहकारी होते?

- A. वल्लभभाई पटेल
- B. सुभाषचंद्र बोस
- C. अनी बेझंट
- D. गोविंद वल्लभ पंत
- E. बी. आर. अंबेडकर

खाली दिलेल्या पर्यायांमधून योग्य उत्तर निवडा:

- 1. A, C, E फक्त
- 2. A, B, E फक्त
- 3. B, D, C फक्त
- 4. A, B, D फक्त

Options :

- 485584146065. 1
- 485584146066. 2

485584146067. 3

485584146068. 4

Question Number : 133 Question Id : 48558436518 Question Type : MCQ Option Shuffling : No Is Question Mandatory : No Calculator : None Response Time : N.A Think Time : N.A Minimum Instruction Time : 0

Correct Marks : 5 Wrong Marks : 1

Question Key Details :

| Key           | Value |
|---------------|-------|
| Comprehension | MCQ   |

Match List I with List II:

| LIST I |                     | LIST II |      |
|--------|---------------------|---------|------|
| A.     | Dandi March         | I.      | 1917 |
| B.     | Khilafat Movement   | II.     | 1942 |
| C.     | Quit India Movement | III.    | 1921 |
| D.     | Champaran Movement  | IV.     | 1930 |

Choose the correct answer from the options given below:

1. A-I, B-II, C-III, D-IV
2. A-II, B-IV, C-I, D-III
3. A-IV, B-III, C-II, D-I
4. A-III, B-IV, C-I, D-II

Options :

485584146069. 1

485584146070. 2

485584146071. 3

485584146072. 4

Question Number : 133 Question Id : 48558436518 Question Type : MCQ Option Shuffling : No Is Question Mandatory : No Calculator : None Response Time : N.A Think Time : N.A Minimum Instruction Time : 0

Correct Marks : 5 Wrong Marks : 1

Question Key Details :

| Key           | Value |
|---------------|-------|
| Comprehension | MCQ   |

यादी I व यादी II योग्य जोड्या जुळवा:-

| यादी I |                | यादी II |      |
|--------|----------------|---------|------|
| A.     | दादी यात्रा    | I.      | 1917 |
| B.     | खिलाफत चळवळ    | II.     | 1942 |
| C.     | भारत छोडो चळवळ | III.    | 1921 |
| D.     | चंपारण चळवळ    | IV.     | 1930 |

खाली दिलेल्या पर्यायांमधून योग्य उत्तर निवडा:

1. A-I, B-II, C-III, D-IV
2. A-II, B-IV, C-I, D-III
3. A-IV, B-III, C-II, D-I
4. A-III, B-IV, C-I, D-II

Options :

485584146069. 1

485584146070. 2

485584146071. 3  
485584146072. 4

Question Number : 134 Question Id : 48558436519 Question Type : MCQ Option Shuffling : No Is Question Mandatory : No Calculator :  
None Response Time : N.A Think Time : N.A Minimum Instruction Time : 0  
Correct Marks : 5 Wrong Marks : 1

Question Key Details :

| Key           | Value |
|---------------|-------|
| Comprehension | MCQ   |

Chronologically arrange the following movements led by Mahatma Gandhi.

- A. Rowlatt Satyagraha
- B. Kheda Movement
- C. Champaran Satyagraha
- D. Ahmedabad Mill Strike
- E. Dandi March

Choose the correct answer from the options given below:

- 1. A, B, C, D, E
- 2. B, D, C, A, E
- 3. C, D, B, A, E
- 4. C, A, B, D, E

Options :

485584146073. 1  
485584146074. 2  
485584146075. 3  
485584146076. 4

Question Number : 134 Question Id : 48558436519 Question Type : MCQ Option Shuffling : No Is Question Mandatory : No Calculator :  
None Response Time : N.A Think Time : N.A Minimum Instruction Time : 0  
Correct Marks : 5 Wrong Marks : 1

Question Key Details :

| Key           | Value |
|---------------|-------|
| Comprehension | MCQ   |

महात्मा गांधीजींच्या नेतृत्वाखाली झालेल्या खालील चळवळी कालानुक्रमे योग्य क्रमाने मांडा.

- A. रौलट सत्याग्रह
- B. खेडा चळवळ
- C. चंपारण सत्याग्रह
- D. अहमदाबाद गिरणी कामगारांचा संप
- E. दांडी यात्रा

खाली दिलेल्या पर्यायांमधून योग्य उत्तर निवडा:

- 1. A, B, C, D, E
- 2. B, D, C, A, E
- 3. C, D, B, A, E
- 4. C, A, B, D, E

Options :

485584146073. 1  
485584146074. 2

485584146075. 3  
485584146076. 4

**Question Number : 135 Question Id : 48558436520 Question Type : MCQ Option Shuffling : No Is Question Mandatory : No Calculator : None Response Time : N.A Think Time : N.A Minimum Instruction Time : 0**

**Correct Marks : 5 Wrong Marks : 1**

**Question Key Details :**

| Key           | Value |
|---------------|-------|
| Comprehension | MCQ   |

The 'Hindu Mahasabha' was founded in \_\_\_\_\_.

1. 1917
2. 1915
3. 1916
4. 1919

**Options :**

485584146077. 1  
485584146078. 2  
485584146079. 3  
485584146080. 4

**Question Number : 135 Question Id : 48558436520 Question Type : MCQ Option Shuffling : No Is Question Mandatory : No Calculator : None Response Time : N.A Think Time : N.A Minimum Instruction Time : 0**

**Correct Marks : 5 Wrong Marks : 1**

**Question Key Details :**

| Key           | Value |
|---------------|-------|
| Comprehension | MCQ   |

हिंदू महासभेची स्थापना या वर्षी झाली:

1. 1917
2. 1915
3. 1916
4. 1919

**Options :**

485584146077. 1  
485584146078. 2  
485584146079. 3  
485584146080. 4

**Question Number : 136 Question Id : 48558436521 Question Type : MCQ Option Shuffling : No Is Question Mandatory : No Calculator : None Response Time : N.A Think Time : N.A Minimum Instruction Time : 0**

**Correct Marks : 5 Wrong Marks : 1**

**Question Key Details :**

| Key           | Value |
|---------------|-------|
| Comprehension | MCQ   |

On which date did the Constituent Assembly begin its sessions?

1. 6 December 1946
2. 9 December 1946
3. 15 July 1946
4. 16 July 1946

**Options :**

485584146081. 1  
485584146082. 2  
485584146083. 3  
485584146084. 4

**Question Number : 136 Question Id : 48558436521 Question Type : MCQ Option Shuffling : No Is Question Mandatory : No Calculator : None Response Time : N.A Think Time : N.A Minimum Instruction Time : 0**

**Correct Marks : 5 Wrong Marks : 1**

**Question Key Details :**

| Key           | Value |
|---------------|-------|
| Comprehension | MCQ   |

संविधान सभेने तिच्या कामकाजास कोणत्या दिवशी सुरुवात केली?

1. 6 डिसेंबर 1946
2. 9 डिसेंबर 1946
3. 15 जुलै 1946
4. 16 जुलै 1946

**Options :**

485584146081. 1  
485584146082. 2  
485584146083. 3  
485584146084. 4

**Question Number : 137 Question Id : 48558436522 Question Type : MCQ Option Shuffling : No Is Question Mandatory : No Calculator : None Response Time : N.A Think Time : N.A Minimum Instruction Time : 0**

**Correct Marks : 5 Wrong Marks : 1**

**Question Key Details :**

| Key           | Value |
|---------------|-------|
| Comprehension | MCQ   |

Match List I with List II:

| LIST I |                                 | LIST II |                |
|--------|---------------------------------|---------|----------------|
| A.     | Cultural and Educational Rights | I.      | Articles 25-28 |
| B.     | Right to Equality               | II.     | Articles 17    |
| C.     | Freedom of Religion             | III.    | Article 14-16  |
| D.     | Abolition of Untouchability     | IV.     | Articles 29,30 |

Choose the correct answer from the options given below:

1. A-II, B-III, C-IV, D-I
2. A-IV, B-III, C-II, D-I
3. A-I, B-II, C-III, D-IV
4. A-IV, B-III, C-I, D-II

Options :

485584146085. 1  
485584146086. 2  
485584146087. 3  
485584146088. 4

Question Number : 137 Question Id : 48558436522 Question Type : MCQ Option Shuffling : No Is Question Mandatory : No Calculator : None Response Time : N.A Think Time : N.A Minimum Instruction Time : 0

Correct Marks : 5 Wrong Marks : 1

Question Key Details :

| Key           | Value |
|---------------|-------|
| Comprehension | MCQ   |

यादी I व यादी II यांच्या योग्य जोड्या जुळवा:-

| यादी I |                            | यादी II |               |
|--------|----------------------------|---------|---------------|
| A.     | सांस्कृतिक व शैक्षणिक हक्क | I.      | आर्टिकल 25-28 |
| B.     | समतेचा हक्क                | II.     | आर्टिकल 17    |
| C.     | धर्म स्वातंत्र्य           | III.    | आर्टिकल 14-16 |
| D.     | अस्पृश्यतेचे निर्मूलन      | IV.     | आर्टिकल 29,30 |

खाली दिलेल्या पर्यायांमधून योग्य उत्तर निवडा:

1. A-II, B-III, C-IV, D-I
2. A-IV, B-III, C-II, D-I
3. A-I, B-II, C-III, D-IV
4. A-IV, B-III, C-I, D-II

Options :

485584146085. 1  
485584146086. 2  
485584146087. 3  
485584146088. 4

Question Number : 138 Question Id : 48558436523 Question Type : MCQ Option Shuffling : No Is Question Mandatory : No Calculator : None Response Time : N.A Think Time : N.A Minimum Instruction Time : 0

Correct Marks : 5 Wrong Marks : 1

Question Key Details :

| Key           | Value |
|---------------|-------|
| Comprehension | MCQ   |



Who were the two other lawyers serving with B.R. Ambedkar on the Drafting Committee of the Constitution?

- A. K.M. Munshi
- B. B.N Rau
- C. Alladi Krishnaswamy Aiyar
- D. S.N. Mukherjee
- E. Rajendra Prasad

Choose the correct answer from the options given below:

- 1. A, B only
- 2. B, C only
- 3. A, C only
- 4. D, E only

**Options :**

- 485584146089. 1
- 485584146090. 2
- 485584146091. 3
- 485584146092. 4

**Question Number : 138 Question Id : 48558436523 Question Type : MCQ Option Shuffling : No Is Question Mandatory : No Calculator : None Response Time : N.A Think Time : N.A Minimum Instruction Time : 0**

**Correct Marks : 5 Wrong Marks : 1**

**Question Key Details :**

| Key           | Value |
|---------------|-------|
| Comprehension | MCQ   |

बी. आर. आंबेडकर यांच्या बरोबर मसुदा समितीत कार्य करणारे इतर दोन वकील सदस्य कोण होते?

- A. के. एम्. मुंशी
- B. बी. एन्. राव
- C. अल्लादी कृष्णस्वामी अय्यर
- D. एस्. एन. मुखर्जी
- E. राजेंद्र प्रसाद

खाली दिलेल्या पर्यायांमधून योग्य उत्तर निवडा:

- 1. A आणि B फक्त
- 2. B आणि C फक्त
- 3. A आणि C फक्त
- 4. D आणि E फक्त

**Options :**

- 485584146089. 1
- 485584146090. 2
- 485584146091. 3
- 485584146092. 4

**Question Number : 139 Question Id : 48558436524 Question Type : MCQ Option Shuffling : No Is Question Mandatory : No Calculator : None Response Time : N.A Think Time : N.A Minimum Instruction Time : 0**

**Correct Marks : 5 Wrong Marks : 1**

**Question Key Details :**

| Key | Value |
|-----|-------|
|-----|-------|

Arrange the following in a chronological order:

- Constituent Assembly begins its session.
- Muslim League accepts Cabinet Mission's constitutional scheme.
- Muslim League decides to join the Interim Government.
- Muslim League announces Direct Action Day.
- Muslim League demands dissolution of the Constituent Assembly.

Choose the correct answer from the options given below:

- B, D, C, A, E
- B, A, D, C, E
- A, B, C, D, E
- D, A, E, B, C

Options :

485584146093. 1  
485584146094. 2  
485584146095. 3  
485584146096. 4

Question Number : 139 Question Id : 48558436524 Question Type : MCQ Option Shuffling : No Is Question Mandatory : No Calculator : None Response Time : N.A Think Time : N.A Minimum Instruction Time : 0

Correct Marks : 5 Wrong Marks : 1

Question Key Details :

| Key           | Value |
|---------------|-------|
| Comprehension | MCQ   |

खालील घटना कालानुक्रमे योग्य क्रमाने मांडा.

- संविधान सभेच्या कामकाजास सुरुवात.
- मुस्लिम लीगने कॅबिनेट मिशनच्या संविधान योजनेस मान्यता दिली.
- हंगामी सरकारमध्ये समाविष्ट होण्याचा मुस्लिम लीगचा निर्णय.
- मुस्लिम लीगने 'प्रत्यक्ष कृती दिन' घोषित केला.
- मुस्लिम लीगने संविधान सभा विसर्जित करण्याची मागणी केली.

खाली दिलेल्या पर्यायांमधून योग्य उत्तर निवडा.

- B, D, C, A, E
- B, A, D, C, E
- A, B, C, D, E
- D, A, E, B, C

Options :

485584146093. 1  
485584146094. 2  
485584146095. 3  
485584146096. 4

Question Number : 140 Question Id : 48558436525 Question Type : MCQ Option Shuffling : No Is Question Mandatory : No Calculator : None Response Time : N.A Think Time : N.A Minimum Instruction Time : 0

Correct Marks : 5 Wrong Marks : 1

Question Key Details :

| Key | Value |
|-----|-------|
|-----|-------|

Which of the following statements are **True** for the Constituent Assembly?

- A. It was boycotted by the Muslim League.
- B. It was elected by Universal Franchise.
- C. Its members were chosen by Provincial Legislatures.
- D. Majority of its members belonged to the Socialist Party.
- E. Constituent Assembly was dominated by three parties.

Choose the **correct** answer from the options given below:

- 1. A, E only
- 2. B, D only
- 3. A, C only
- 4. B, E only

**Options :**

- 485584146097. 1
- 485584146098. 2
- 485584146099. 3
- 485584146100. 4

**Question Number : 140 Question Id : 48558436525 Question Type : MCQ Option Shuffling : No Is Question Mandatory : No Calculator : None Response Time : N.A Think Time : N.A Minimum Instruction Time : 0**

**Correct Marks : 5 Wrong Marks : 1**

**Question Key Details :**

| Key           | Value |
|---------------|-------|
| Comprehension | MCQ   |

संविधान सभेच्या संदर्भात खालीलपैकी कोणते विधान सत्य आहे?

- A. मुस्लिम लीगने तिच्यावर बहिष्कार टाकला होता.
- B. सार्वत्रिक मतदानाद्वारे तिची निवड करण्यात आली.
- C. प्रांतिक विधीमंडळांनी त्यातील सदस्यांची निवड केली होती.
- D. तिचे बहुतांशी सदस्य समाजवादी पक्षाचे होते.
- E. संविधान सभेवर तीन पक्षांचे वर्चस्व होते.

खाली दिलेल्या पर्यायांमधून योग्य उत्तर निवडा:

- 1. A आणि E फक्त
- 2. B आणि D फक्त
- 3. A आणि C फक्त
- 4. B आणि E फक्त

**Options :**

- 485584146097. 1
- 485584146098. 2
- 485584146099. 3
- 485584146100. 4

**Sub-Section Number :**

2

**Sub-Section Id :**

4855842697

**Question Shuffling Allowed :**

No

**Is Section Default? :**

null

Question Number : 141 Question Id : 48558436526 Question Type : MCQ Option Shuffling : No Is Question Mandatory : No Calculator : None Response Time : N.A Think Time : N.A Minimum Instruction Time : 0

Correct Marks : 5 Wrong Marks : 1

Question Key Details :

| Key           | Value |
|---------------|-------|
| Comprehension | Comp1 |

Read the passage and answer the questions :

According to Buddhist philosophy, the world is transient (anicca) and constantly changing; it is also soulless (anatta) as there is nothing permanent or eternal in it. Within this transient world, sorrow (dukkha) is intrinsic to human existence. It is by following the path of moderation between severe penance and self-indulgence that human beings can rise above these worldly troubles. In the earliest forms of Buddhism whether or not god existed was irrelevant.

Which of the following statement is NOT True regarding the Buddhist philosophy?

1. The world is transient and constantly changing.
2. Sorrow is intrinsic to human existence.
3. Humans can rise above sorrow by following the path of severe penance and self-indulgence.
4. The world is soulless as there is nothing permanent or eternal in it.

Options :

485584146101. 1
485584146102. 2
485584146103. 3
485584146104. 4

Question Number : 141 Question Id : 48558436526 Question Type : MCQ Option Shuffling : No Is Question Mandatory : No Calculator : None Response Time : N.A Think Time : N.A Minimum Instruction Time : 0

Correct Marks : 5 Wrong Marks : 1

Question Key Details :

| Key           | Value |
|---------------|-------|
| Comprehension | Comp1 |

खालील उताऱ्याचे वाचन करा व उत्तरे लिहा.

बौद्ध तत्त्वज्ञानानुसार जग क्षणभंगुर (anicca) आहे. सतत बदलत आहे. ते आत्म्याशिवाय (anatta) आहे. त्याबाबतची कोणतीही गोष्ट कायम स्वरूपी किंवा शाश्वत नाही. या सतत बदलणाऱ्या जगात, दुःख हे मानवी अस्तित्वासाठी स्वाभाविक आहे. कठोर तपस्या आणि आत्मभोग यांच्यातील संयमाचा संतुलनाचा मार्ग अवलंबल्याने मनुष्य सांसारिक संकटांवर मात करू शकतो. बौद्ध धर्माच्या सुरुवातीच्या स्वरूपात देव अस्तित्वात आहे की नाही हे अप्रासंगिक होते.

बौद्ध तत्त्वज्ञानाच्या संदर्भात खालीलपैकी कोणते विधान सत्य नाही?

1. जग क्षण भंगुर आणि सतत बदलणारे आहे.
2. दुःख मानवी अस्तित्वासाठी स्वाभाविक आहे.
3. कठोर तपस्या व आत्मभोगाचा मार्ग अवलंबून मनुष्य सांसारिक संकटांवर मात करू शकतो.
4. जग आत्म्याशिवाय आहे आणि त्याबाबतची कोणतीही गोष्ट कायम स्वरूपी किंवा शाश्वत नाही.

Options :

485584146101. 1
485584146102. 2

485584146103. 3  
485584146104. 4

Question Number : 142 Question Id : 48558436527 Question Type : MCQ Option Shuffling : No Is Question Mandatory : No Calculator :  
None Response Time : N.A Think Time : N.A Minimum Instruction Time : 0  
Correct Marks : 5 Wrong Marks : 1  
Question Key Details :

| Key           | Value |
|---------------|-------|
| Comprehension | Comp1 |

Read the passage and answer the questions :

According to Buddhist philosophy, the world is transient (anicca) and constantly changing; it is also soulless (anatta) as there is nothing permanent or eternal in it. Within this transient world, sorrow (dukkha) is intrinsic to human existence. It is by following the path of moderation between severe penance and self indulgence that human beings can rise above these worldly troubles. In the earliest forms of Buddhism whether or not god existed was irrelevant.

Which of the following idea is NOT a part of the teachings of the Buddha?

1. Importance of right conduct and values.
2. Claims of superiority based on birth.
3. Metta (fellow feeling).
4. Karuna (compassion).

Options :

485584146105. 1  
485584146106. 2  
485584146107. 3  
485584146108. 4

Question Number : 142 Question Id : 48558436527 Question Type : MCQ Option Shuffling : No Is Question Mandatory : No Calculator :  
None Response Time : N.A Think Time : N.A Minimum Instruction Time : 0  
Correct Marks : 5 Wrong Marks : 1  
Question Key Details :

| Key           | Value |
|---------------|-------|
| Comprehension | Comp1 |

खालील उताऱ्याचे वाचन करा व उत्तरे लिहा.

बौद्ध तत्त्वज्ञानानुसार जग क्षणभंगुर (anicca) आहे. सतत बदलत आहे. ते आत्म्याशिवाय (anatta) आहे. त्याबाबतची कोणतीही गोष्ट कायम स्वरूपी किंवा शाश्वत नाही. या सतत बदलणाऱ्या जगात, दुःख हे मानवी अस्तित्वासाठी स्वाभाविक आहे. कठोर तपस्या आणि आत्मभोग यांच्यातील संपन्नाचा/संतुलनाचा मार्ग अवलंबल्याने मनुष्य सांसारिक संकटांवर मात करू शकतो. बौद्ध धर्माच्या सुरुवातीच्या स्वरूपात देव अस्तित्वात आहे की नाही हे अप्रासंगिक होते.

खालील पैकी कोणती कल्पना बुद्धांच्या तत्त्वज्ञानाचा भाग नाही?

1. चांगली वर्तणूक व मूल्ये यांना महत्त्व
2. जन्मावर आधारित उच्चत्वाचा दावा
3. (मैत्र) सहकार्याची भावना
4. करुणा

**Options :**

485584146105. 1  
485584146106. 2  
485584146107. 3  
485584146108. 4

**Question Number : 143 Question Id : 48558436528 Question Type : MCQ Option Shuffling : No Is Question Mandatory : No Calculator : None Response Time : N.A Think Time : N.A Minimum Instruction Time : 0**

**Correct Marks : 5 Wrong Marks : 1**

**Question Key Details :**

| Key           | Value |
|---------------|-------|
| Comprehension | Comp1 |

**Read the passage and answer the questions :**

According to Buddhist philosophy, the world is transient (anicca) and constantly changing; it is also soulless (anatta) as there is nothing permanent or eternal in it. Within this transient world, sorrow (dukkha) is intrinsic to human existence. It is by following the path of moderation between severe penance and self indulgence that human beings can rise above these worldly troubles. In the earliest forms of Buddhism whether or not god existed was irrelevant.

In Buddhism, the followers of the older tradition, who followed the old path and respected teachers, described themselves as:

1. Theravadins
2. Mahayanas
3. Taravadins
4. Tantrics

**Options :**

485584146109. 1  
485584146110. 2  
485584146111. 3  
485584146112. 4

**Question Number : 143 Question Id : 48558436528 Question Type : MCQ Option Shuffling : No Is Question Mandatory : No Calculator : None Response Time : N.A Think Time : N.A Minimum Instruction Time : 0**

**Correct Marks : 5 Wrong Marks : 1**

**Question Key Details :**

| Key           | Value |
|---------------|-------|
| Comprehension | Comp1 |

खालील उताऱ्याचे वाचन करा व उत्तरे लिहा.

बौद्ध तत्त्वज्ञानानुसार जग क्षणभंगुर (anicca) आहे, सतत बदलत आहे. ते आत्म्याशिवाय (anatta) आहे. त्याबाबतची कोणतीही गोष्ट कायम स्वरूपी किंवा शाश्वत नाही. या सतत बदलणाऱ्या जगात, दुःख हे मानवी अस्तित्वासाठी स्वाभाविक आहे. कठोर तपस्या आणि आत्मभोग यांच्यातील संयमाचा/संतुलनाचा मार्ग अवलंबल्याने मनुष्य सांसारिक संकटांवर मात करू शकतो. बौद्ध धर्माच्या सुरुवातीच्या स्वरूपात देव अस्तित्वात आहे की नाही हे अप्रासंगिक होते.

बौद्ध धर्मात जुन्या परंपराचे, जुन्या मार्गाचे पालन करणारे गुरुंचा आदर करणारे स्वतःला काय म्हणवून घेतात?

1. थेरीवादीन
2. महाप्यान
3. तरावादीन
4. तांत्रिक

**Options :**

485584146109. 1  
485584146110. 2  
485584146111. 3  
485584146112. 4

**Question Number : 144 Question Id : 48558436529 Question Type : MCQ Option Shuffling : No Is Question Mandatory : No Calculator : None Response Time : N.A Think Time : N.A Minimum Instruction Time : 0**

**Correct Marks : 5 Wrong Marks : 1**

**Question Key Details :**

| Key           | Value |
|---------------|-------|
| Comprehension | Comp1 |

**Read the passage and answer the questions :**

According to Buddhist philosophy, the world is transient (anicca) and constantly changing; it is also soulless (anatta) as there is nothing permanent or eternal in it. Within this transient world, sorrow (dukkha) is intrinsic to human existence. It is by following the path of moderation between severe penance and self indulgence that human beings can rise above these worldly troubles. In the earliest forms of Buddhism whether or not god existed was irrelevant.

Where did Gautama Buddha attain 'nibbana'?

1. Lumbini
2. Rajgriha
3. Samath
4. Kusinagara

**Options :**

485584146113. 1  
485584146114. 2  
485584146115. 3  
485584146116. 4

**Question Number : 144 Question Id : 48558436529 Question Type : MCQ Option Shuffling : No Is Question Mandatory : No Calculator : None Response Time : N.A Think Time : N.A Minimum Instruction Time : 0**

**Correct Marks : 5 Wrong Marks : 1**

**Question Key Details :**

| Key           | Value |
|---------------|-------|
| Comprehension | Comp1 |

खालील उतान्याचे वाचन करा व उत्तरे लिहा.

बौद्ध तत्त्वज्ञानानुसार जग क्षणभंगुर (anicca) आहे. सतत बदलत आहे. ते आत्म्याशिवाय (anatta) आहे. त्याबाबतची कोणतीही गोष्ट कायम स्वरूपी किंवा शाश्वत नाही. या सतत बदलणाऱ्या जगात, दुःख हे मानवी अस्तित्वासाठी स्वाभाविक आहे. कठोर तपस्या आणि आत्मभोग यांच्यातील संपन्नाचा संतुलनाचा मार्ग अवलंबल्याने मनुष्य सांसारिक संकटांवर मात करू शकतो. बौद्ध धर्माच्या सुरुवातीच्या स्वरूपात देव अस्तित्वात आहे की नाही हे अप्रासंगिक होते.

गौतम बुद्धांना 'निर्वाण' कुठे प्राप्त झाले?

1. लुंबिनी
2. राजगृह
3. सारनाथ
4. कुशीनगर

Options :

485584146113. 1  
485584146114. 2  
485584146115. 3  
485584146116. 4

Question Number : 145 Question Id : 48558436530 Question Type : MCQ Option Shuffling : No Is Question Mandatory : No Calculator : None Response Time : N.A Think Time : N.A Minimum Instruction Time : 0

Correct Marks : 5 Wrong Marks : 1

Question Key Details :

| Key           | Value |
|---------------|-------|
| Comprehension | Comp1 |

Read the passage and answer the questions :

According to Buddhist philosophy, the world is transient (anicca) and constantly changing; it is also soulless (anatta) as there is nothing permanent or eternal in it. Within this transient world, sorrow (dukkha) is intrinsic to human existence. It is by following the path of moderation between severe penance and self indulgence that human beings can rise above these worldly troubles. In the earliest forms of Buddhism whether or not god existed was irrelevant.

Which of the following statements are **True** about the teachings of Buddha?

- A. The Buddha regarded the social world as of divine origin.
- B. The Buddha advised kings and gahapatis to be humane and ethical.
- C. The Buddha believed that collective effort was required to transform social relations.
- D. The Buddha emphasised individual agency and righteous action to escape from the cycle of birth.
- E. The Buddha asserted that the extinguishing of ego and desire would end the cycle of suffering.

Choose the **correct** answer from the options given below:

1. C, D, E only
2. B, C, D only
3. A, B, D only
4. B, D, E only

Options :

485584146117. 1



485584146118. 2  
485584146119. 3  
485584146120. 4

Question Number : 145 Question Id : 48558436530 Question Type : MCQ Option Shuffling : No Is Question Mandatory : No Calculator :  
None Response Time : N.A Think Time : N.A Minimum Instruction Time : 0  
Correct Marks : 5 Wrong Marks : 1

Question Key Details :

| Key           | Value |
|---------------|-------|
| Comprehension | Comp1 |

खालील उताऱ्याचे वाचन करा व उत्तरे लिहा.

बौद्ध तत्त्वज्ञानानुसार जग क्षणभंगुर (anicca) आहे. सतत बदलत आहे. ते आत्म्याशिवाय (anatta) आहे. त्याबाबतची कोणतीही गोष्ट कायम स्वरूपी किंवा शाश्वत नाही. या सतत बदलणाऱ्या जगात, दुःख हे मानवी अस्तित्वासाठी स्वाभाविक आहे. कठोर तपस्या आणि आत्मभोग यांच्यातील संपन्नाचा संतुलनाचा मार्ग अवलंबल्याने मनुष्य सांसारिक संकटांवर मात करू शकतो. बौद्ध धर्माच्या सुरुवातीच्या स्वरूपात देव अस्तित्वात आहे की नाही हे अप्रासंगिक होते.

बुद्धांच्या उपदेशांच्या संदर्भात खालीलपैकी कोणती विधाने सत्य आहेत?

- बुद्धांनी सामाजिक जगाला देवी उत्पत्ती मानले.
- बुद्धांनी राजे आणि गृहपतींना मानवता आणि नैतिकतेचा सल्ला दिला.
- बुद्धांचा असा विश्वास होता की सामाजिक संबंध बदलण्यासाठी सामूहिक प्रयत्न आवश्यक आहेत.
- बुद्धांनी असे प्रतिपादन केले की अहंकार आणि इच्छा नाहीशा केल्याने दुःखाचे चक्र संपेल.

खाली दिलेल्या पर्यायांमधून योग्य उत्तर निवडा:

- C, D, E फक्त
- B, C, D फक्त
- A, B, D फक्त
- B, D, E फक्त

Options :

485584146117. 1  
485584146118. 2  
485584146119. 3  
485584146120. 4

Sub-Section Number : 3  
Sub-Section Id : 4855842698  
Question Shuffling Allowed : No  
Is Section Default? : null

Question Number : 146 Question Id : 48558436531 Question Type : MCQ Option Shuffling : No Is Question Mandatory : No Calculator :  
None Response Time : N.A Think Time : N.A Minimum Instruction Time : 0

Correct Marks : 5 Wrong Marks : 1

Question Key Details :

| Key           | Value |
|---------------|-------|
| Comprehension | Comp2 |

**Read the passage and answer the questions :**

*Section I - Regarding Zemindars.* It is evident that the British Government in making zemindary settlement have imposed exorbitant *Jumas* (revenue demand) and have disgraced and ruined several Zemindars by putting up their estates for public auction for arrears of rent, in so much, in the institution of a suit by a common Ryot, a maid servant or a slave, the respectable Zemindars are summoned into court, arrested, put in goal and disgraced. In litigation regarding Zemindaries, the immense value of stamps, and other unnecessary expenses of the civil courts,... are all calculated to impoverish the litigants. Besides this, the coffers of the Zemindars are annually taxed with the subscription for schools, hospitals, roads, etc. Such extortions will have no manner of existence in the Badshahi Government; but on the contrary the *Jumas* will be light, the dignity and honour of the Zemindars safe, and every Zemindar will have absolute rule in his own Zemindary..

This excerpt has been taken from:

1. Bijnaur Proclamation of 1857
2. Kanpur Proclamation of 1857
3. Azamgarh Proclamation of 1857
4. Lucknow Proclamation of 1857

**Options :**

485584146121. 1
485584146122. 2
485584146123. 3
485584146124. 4

**Question Number : 146 Question Id : 48558436531 Question Type : MCQ Option Shuffling : No Is Question Mandatory : No Calculator : None Response Time : N.A Think Time : N.A Minimum Instruction Time : 0**

**Correct Marks : 5 Wrong Marks : 1**

**Question Key Details :**

| Key           | Value |
|---------------|-------|
| Comprehension | Comp2 |

खालील उतान्याचे वाचन करा व उत्तरे लिहा.

सेक्शन 1 . जमीनदारांसंबंधी हे स्पष्ट आहे की ब्रिटिश सरकारने जमीनदारी महसूल व्यवस्था लागू करताना प्रचंड कर लादले. अनेक जमीनदारांच्या मालमतांचा सार्वजनिक लिलाव करून त्यांचा अपमान केला व त्यांना खच्ची केले. सार्वजनिक लिलावासाठी भाड्याची थकबाकी, जनता, नोकर किंवा दासांनी दाखल केलेला कज्जा, अशी कारणे दिलीव. समाजात मान असणाऱ्या, जमीनदारांना न्यायालयात हजर राहावे लागले, अटक झाली व मानहानी केली गेली. जमीनदारी संबंधीच्या खटल्यात मुद्रांकाची अवाढव्य किंमत आणि दिवाणी न्यायालयांचा अनावश्यक खर्च यामुळे वाढी गरीब होण्यात परिणीती झाली. या शिवाय जमीनदारांच्या तिजोरीवर वार्षिक रित्या शाळा, रुग्णालये, रस्ते यांविषयाच्या कराचा भार लादण्यात आला. अशी खंडणी बादशाही सरकारमध्ये अस्तित्वात असणार नाही. चाऊलट जुमा म्हणजे महसूली कर कमी करण्यात येतील, जमिनदारांची प्रतिष्ठा आणि सन्मान सुरक्षित ठेवले जातील. प्रत्येक जमीनदाराचा त्याच्या जमीनदारी क्षेत्रात पूर्णपणे अंमल असेल.

हा उतारा \_\_\_\_\_ याच्यातून घेण्यात आला आहे.

1. 1857 चा बीजनौर जाहीरनामा
2. 1857 चा कानपूर जाहीरनामा
3. 1857 चा आझमगढ जाहीरनामा
4. 1857 चा लखनौ जाहीरनामा

**Options :**

- 485584146121. 1
- 485584146122. 2
- 485584146123. 3
- 485584146124. 4

**Question Number : 147 Question Id : 48558436532 Question Type : MCQ Option Shuffling : No Is Question Mandatory : No Calculator : None Response Time : N.A Think Time : N.A Minimum Instruction Time : 0**

**Correct Marks : 5 Wrong Marks : 1**

**Question Key Details :**

| Key           | Value |
|---------------|-------|
| Comprehension | Comp2 |

**Read the passage and answer the questions :**

*Section I - Regarding Zemindars.* It is evident that the British Government in making zemindary settlement have imposed exorbitant *Jumas* (revenue demand) and have disgraced and ruined several Zemindars by putting up their estates for public auction for arrears of rent, in so much, in the institution of a suit by a common Ryot, a maid servant or a slave, the respectable Zemindars are summoned into court, arrested, put in goal and disgraced. In litigation regarding Zemindaries, the immense value of stamps, and other unnecessary expenses of the civil courts, ... are all calculated to impoverish the litigants. Besides this, the coffers of the Zemindars are annually taxed with the subscription for schools, hospitals, roads, etc. Such extortions will have no manner of existence in the Badshahi Government; but on the contrary the *Jumas* will be light, the dignity and honour of the Zemindars safe, and every Zemindar will have absolute rule in his own Zemindary...

"Section I" of the Proclamation addresses to which class?

1. Service gentry class
2. Land holding class
3. Merchant-commercial class
4. Artisans and peasants

**Options :**

- 485584146125. 1
- 485584146126. 2
- 485584146127. 3
- 485584146128. 4

**Question Number : 147 Question Id : 48558436532 Question Type : MCQ Option Shuffling : No Is Question Mandatory : No Calculator : None Response Time : N.A Think Time : N.A Minimum Instruction Time : 0**

**Correct Marks : 5 Wrong Marks : 1**

**Question Key Details :**

| Key           | Value |
|---------------|-------|
| Comprehension | Comp2 |

खालील उतान्याचे वाचन करा व उत्तरे लिहा.

सेक्शन 1 . जमीनदारांसंबंधी हे स्पष्ट आहे की ब्रिटिश सरकारने जमीनदारी महसूल व्यवस्था लागू करताना प्रचंड कर लादले. अनेक जमीनदारांच्या मालमतांचा सार्वजनिक लिलाव करून त्यांचा अपमान केला व त्यांना खच्ची केले. सार्वजनिक लिलावासाठी भाल्याची धकबाकी, जनता, नोकर किंवा दासांनी दाखल केलेला कज्जा, अशी कारणे दिलीव. समाजात मान असणाऱ्या, जमीनदारांना न्यायालयात हजर राहावे लागले. अटक झाली व मानहानी केली गेली. जमीनदारी संबंधीच्या खटल्यात मुद्रांकाची अवाढव्य किंमत आणि दिवाणी न्यायालयांचा अनावश्यक खर्च यामुळे वादी गरीब होण्यात परिणीती झाली. या शिवाय जमीनदारांच्या तिजोरीवर वार्षिक रित्या शाळा, रुग्णालये, रस्ते यांविषयाच्या कराचा भार लादण्यात आला. अशी खंडणी बादशाही सरकारमध्ये अस्तित्वात असणार नाही. याऊलट जुमा म्हणजे महसूली कर कमी करण्यात येतील, जमिनदारांची प्रतिष्ठा आणि सन्मान सुरक्षित ठेवले जातील. प्रत्येक जमीनदाराचा त्याच्या जमीनदारी क्षेत्रात पूर्णपणे अंमल असेल.

जाहीरनाम्याच्या 'सेक्शन मध्ये कोणत्या वर्गाला संबोधित केले आहे?

1. सेवा पुरवणारा वर्ग
2. भू-धारकांचा वर्ग
3. व्यापारी - व्यावसायिकांचा वर्ग
4. कारागीर व शेतकरी

Options :

485584146125. 1  
485584146126. 2  
485584146127. 3  
485584146128. 4

Question Number : 148 Question Id : 48558436533 Question Type : MCQ Option Shuffling : No Is Question Mandatory : No Calculator : None Response Time : N.A Think Time : N.A Minimum Instruction Time : 0

Correct Marks : 5 Wrong Marks : 1

Question Key Details :

| Key           | Value |
|---------------|-------|
| Comprehension | Comp2 |

Read the passage and answer the questions :

*Section I - Regarding Zemindars.* It is evident that the British Government in making zemindary settlement have imposed exorbitant *Jumas* (revenue demand) and have disgraced and ruined several Zemindars by putting up their estates for public auction for arrears of rent, in so much, in the institution of a suit by a common Ryot, a maid servant or a slave, the respectable Zemindars are summoned into court, arrested, put in goal and disgraced. In litigation regarding Zemindaries, the immense value of stamps, and other unnecessary expenses of the civil courts, ... are all calculated to impoverish the litigants. Besides this, the coffers of the Zemindars are annually taxed with the subscription for schools, hospitals, roads, etc. Such extortions will have no manner of existence in the Badshahi Government; but on the contrary the *Jumas* will be light, the dignity and honour of the Zemindars safe, and every Zemindar will have absolute rule in his own Zemindary...

Which of the difficulties and miseries of the zamindars have NOT been addressed in the Proclamation?

1. Absolute maximising of land tax.
2. Loss of social prestige.
3. Financial burden of the litigation.
4. Backwardness in communication and transportation.

**Options :**

485584146129. 1  
485584146130. 2  
485584146131. 3  
485584146132. 4

**Question Number : 148 Question Id : 48558436533 Question Type : MCQ Option Shuffling : No Is Question Mandatory : No Calculator : None Response Time : N.A Think Time : N.A Minimum Instruction Time : 0**

**Correct Marks : 5 Wrong Marks : 1**

**Question Key Details :**

| Key           | Value |
|---------------|-------|
| Comprehension | Comp2 |

खालील उतान्याचे वाचन करा व उत्तरे लिहा.

सेक्शन 1 . जमीनदारांसंबंधी हे स्पष्ट आहे की ब्रिटिश सरकारने जमीनदारी महसूल व्यवस्था लागू करताना प्रचंड कर लादले. अनेक जमीनदारांच्या मालमत्तांचा सार्वजनिक लिलाव करून त्यांचा अपमान केला व त्यांना खच्ची केले. सार्वजनिक लिलावासाठी भाड्याची थकबाकी, जनता, नोकर किंवा दासांनी दाखल केलेला कज्जा, अशी कारणे दिलीव. समाजात मान असणाऱ्या, जमीनदारांना न्यायालयात हजर राहावे लागले, अटक झाली व मानहानी केली गेली. जमीनदारी संबंधीच्या खटल्यात मुद्रांकाची अवाढव्य किंमत आणि दिवाणी न्यायालयांचा अनातथपक खर्च यामुळे वादी गरीब होण्यात परिणीती झाली. या शिवाय जमीनदारांच्या तिजोरीवर वार्षिक रिस्मा शाळा, रुग्णालये, रस्ते यांविषयाच्या कराचा भार लादण्यात आला. अशी खंडणी बादशाही सरकारमध्ये अस्तित्वात असणार नाही, पाऊलट जुमा म्हणजे महसूली कर कमी करण्यात येतील, जमीनदारांची प्रतिष्ठा आणि सन्मान सुरक्षित ठेवले जातील. प्रत्येक जमीनदाराचा त्याच्या जमीनदारी क्षेत्रात पूर्णपणे अंमल असेल.

जाहीरनाम्यात जमीनदारांच्या कोणत्या अडचणी व व्यथांचा उल्लेख नाही?

1. महसूली करात प्रचंड वाढ
2. सामाजिक प्रतिष्ठेचा न्हास
3. खटला चालवण्यामुळे आर्थिक भार
4. संप्रेषण व दळणवळण मागासलेपणा

**Options :**

485584146129. 1  
485584146130. 2  
485584146131. 3  
485584146132. 4

**Question Number : 149 Question Id : 48558436534 Question Type : MCQ Option Shuffling : No Is Question Mandatory : No Calculator : None Response Time : N.A Think Time : N.A Minimum Instruction Time : 0**

**Correct Marks : 5 Wrong Marks : 1**

**Question Key Details :**

| Key           | Value |
|---------------|-------|
| Comprehension | Comp2 |

**Read the passage and answer the questions :**

*Section I - Regarding Zemindars.* It is evident that the British Government in making zemindary settlement have imposed exorbitant *Jumas* (revenue demand) and have disgraced and ruined several Zemindars by putting up their estates for public auction for arrears of rent, in so much, in the institution of a suit by a common Ryot, a maid servant or a slave, the respectable Zemindars are summoned into court, arrested, put in goal and disgraced. In litigation regarding Zemindaries, the immense value of stamps, and other unnecessary expenses of the civil courts,... are all calculated to impoverish the litigants. Besides this, the coffers of the Zemindars are annually taxed with the subscription for schools, hospitals, roads, etc. Such extortions will have no manner of existence in the Badshahi Government; but on the contrary the *Jumas* will be light, the dignity and honour of the Zemindars safe, and every Zemindar will have absolute rule in his own Zemindary..

The alternative rule of 'Badshahi Government' proposed by the rebels in this proclamation refers to \_\_\_\_\_

1. The rule of the king of England.
2. The royal nature of the company state.
3. The rule of India's traditional aristocratic class, such as of Bahadur Shah Zafar.
4. The rule established by the rebels based on the ordinary people of India.

**Options :**

485584146133. 1  
485584146134. 2  
485584146135. 3  
485584146136. 4

**Question Number : 149 Question Id : 48558436534 Question Type : MCQ Option Shuffling : No Is Question Mandatory : No Calculator : None Response Time : N.A Think Time : N.A Minimum Instruction Time : 0**

**Correct Marks : 5 Wrong Marks : 1**

**Question Key Details :**

| Key           | Value |
|---------------|-------|
| Comprehension | Comp2 |

खालील उतान्याचे वाचन करा व उत्तरे लिहा.

सेक्शन 1 . जमीनदारांसंबंधी हे स्पष्ट आहे की ब्रिटिश सरकारने जमीनदारी महसूल व्यवस्था लागू करताना प्रचंड कर लादले. अनेक जमीनदारांच्या मालमत्तांचा सार्वजनिक लिलाव करून त्यांचा अपमान केला व त्यांना खच्ची केले. सार्वजनिक लिलावासाठी भाड्याची धकबाकी, जनता, नोकर किंवा दासांनी दाखल केलेला कज्जा, अशी कारणे दिलीव. समाजात मान असणाऱ्या, जमीनदारांना न्यायालयात हजर राहावे लागले, अटक झाली व मानहानी केली गेली. जमीनदारी संबंधीच्या खटल्यात मुद्रांकाची अवाढव्य किंमत आणि दिवाणी न्यायालयांचा अनावश्यक खर्च यामुळे वादी गरीब होण्यात परिणीती झाली. या शिवाय जमीनदारांच्या तिजोरीवर वार्षिक रित्या शाळा, रुग्णालये, रस्ते यांविषयाच्या कराचा भार लादण्यात आला. अशी खंडणी बादशाही सरकारमध्ये अस्तित्वात असणार नाही, याऊलट जुमा म्हणजे महसूली कर कमी करण्यात येतील, जमिनदारांची प्रतिष्ठा आणि सन्मान सुरक्षित ठेवले जातील. प्रत्येक जमीनदाराचा त्याच्या जमीनदारी क्षेत्रात पूर्णपणे अंमल असेल.

"बादशाही शासन" असे जे पर्यायी शासन उठाव कल्यांनी या जाहीरनाम्यात सूचविले आहे, ते \_\_\_\_\_ शी संबंधित आहे.

1. इंग्लंडच्या राजाचे शासन
2. कंपनीच्या प्रशासनाचे शाही स्वरूप
3. भारतातील पारंपारिक वंशपरंपरागत वर्ग जसे. बहादूरशाहा जफर यांचे शासन
4. भारतातील सर्व सामान्य लोकांवर आधारित उठाव कल्यांनी प्रस्थापित केलेले शासन

**Options :**

485584146133. 1  
485584146134. 2  
485584146135. 3  
485584146136. 4

**Question Number : 150 Question Id : 48558436535 Question Type : MCQ Option Shuffling : No Is Question Mandatory : No Calculator : None Response Time : N.A Think Time : N.A Minimum Instruction Time : 0**

**Correct Marks : 5 Wrong Marks : 1**

**Question Key Details :**

| Key           | Value |
|---------------|-------|
| Comprehension | Comp2 |

**Read the passage and answer the questions :**

*Section I - Regarding Zemindars.* It is evident that the British Government in making zemindary settlement have imposed exorbitant *Jumas* (revenue demand) and have disgraced and ruined several Zemindars by putting up their estates for public auction for arrears of rent, in so much, in the institution of a suit by a common Ryot, a maid servant or a slave, the respectable Zemindars are summoned into court, arrested, put in goal and disgraced. In litigation regarding Zemindaries, the immense value of stamps, and other unnecessary expenses of the civil courts,... are all calculated to impoverish the litigants. Besides this, the coffers of the Zemindars are annually taxed with the subscription for schools, hospitals, roads, etc. Such extortions will have no manner of existence in the Badshahi Government; but on the contrary the *Jumas* will be light, the dignity and honour of the Zemindars safe, and every Zemindar will have absolute rule in his own Zemindary..

Loss of zamindari estates and public auction of the same, as mentioned in the Proclamation, was caused by \_\_\_\_\_.

1. War of succession with the British.
2. Military expedition of the company.
3. New land reserve settlements of the company.
4. Lack of competence and co-ordination on part of the zamindars.

**Options :**

485584146137. 1  
485584146138. 2  
485584146139. 3  
485584146140. 4

**Question Number : 150 Question Id : 48558436535 Question Type : MCQ Option Shuffling : No Is Question Mandatory : No Calculator : None Response Time : N.A Think Time : N.A Minimum Instruction Time : 0**

**Correct Marks : 5 Wrong Marks : 1**

**Question Key Details :**

| Key           | Value |
|---------------|-------|
| Comprehension | Comp2 |

खालील उतान्याचे वाचन करा व उत्तरे लिहा.

सेक्शन 1 . जमीनदारांसंबंधी हे स्पष्ट आहे की ब्रिटिश सरकारने जमीनदारी महसूल व्यवस्था लागू करताना प्रचंड कर लादले. अनेक जमीनदारांच्या मालमतांचा सार्वजनिक लिलाव करून त्यांचा अपमान केला व त्यांना खच्ची केले. सार्वजनिक लिलावासाठी भाड्याची थकबाकी, जनता, नोकर किंवा दासांनी दाखल केलेला कज्जा, अशी कारणे दिलीव. समाजात मान असणाऱ्या, जमीनदारांना न्यायालयात हजर राहावे लागले. अटक झाली व मानहानी केली गेली. जमीनदारी संबंधीच्या खटल्यात मुद्रांकाची अवाढव्य किंमत आणि दिवाणी न्यायालयांचा अनावश्यक खर्च यामुळे वाढी गरीब होण्यात परिणती झाली. या शिवाय जमीनदारांच्या तिजोरीवर वार्षिक रित्या शाळा, रुग्णालये, रस्ते यांविषयाच्या कराचा भार लादण्यात आला. अशी खंडणी बादशाही सरकारमध्ये अस्तित्वात असणार नाही. याऊलट जुमा म्हणजे महसूली कर कमी करण्यात येतील, जमीनदारांची प्रतिष्ठा आणि सन्मान सुरक्षित ठेवले जातील. प्रत्येक जमीनदाराचा त्याच्या जमीनदारी क्षेत्रात पूर्णपणे अंमल असेल.

जमिनदारी मालमतांचा न्हास व सार्वजनिक लिलाव, जे जाहीरनाम्यात उद्धृत केले आहे, त्यामागील कारण \_\_\_\_\_ हे होते.

1. इंग्रजांशी उत्तराधिकारा संबंधी युद्ध
2. कंपनीच्या लष्करी मोहिमा
3. कंपनीच्या नवीन महसूली कर प्रणाली
4. जमीनदारांची अपात्रता आणि समन्वयाचा अभाव

**Options :**

485584146137. 1
485584146138. 2
485584146139. 3
485584146140. 4

## Home Science

|                               |           |
|-------------------------------|-----------|
| Group Number :                | 5         |
| Group Id :                    | 485584825 |
| Group Maximum Duration :      | 45        |
| Group Minimum Duration :      | 45        |
| Show Attended Group? :        | No        |
| Edit Attended Group? :        | No        |
| Break time :                  | 0         |
| Group Marks :                 | 200       |
| Is this Group for Examiner? : | No        |
| Examiner permission :         | Cant View |
| Show Progress Bar? :          | No        |

## Home Science

|  |            |
|--|------------|
| Section Id :   | 485584949  |
| Section Number :   | 1          |
| Section type :   | Online     |
| Mandatory or Optional :                                      | Mandatory  |
| Number of Questions :  | 50         |
| Number of Questions to be attempted :                        | 40         |
| Section Marks :  | 200        |
| Enable Mark as Answered Mark for Review and Clear Response : | Yes        |
| Maximum Instruction Time :                                   | 0          |
| Sub-Section Number :   | 1          |
| Sub-Section Id :   | 4855842699 |
| Question Shuffling Allowed :                                 | Yes        |



Is Section Default? :

null

Question Number : 151 Question Id : 48558436536 Question Type : MCQ Option Shuffling : No Is Question Mandatory : No Calculator : None Response Time : N.A Think Time : N.A Minimum Instruction Time : 0

Correct Marks : 5 Wrong Marks : 1

Question Key Details :

| Key           | Value |
|---------------|-------|
| Comprehension | MCQ   |

The Persons with Disabilities Act was passed in which year?

1. 1995

2. 1996

3. 2000

4. 1998

Options :

485584146141. 1

485584146142. 2

485584146143. 3

485584146144. 4

Question Number : 151 Question Id : 48558436536 Question Type : MCQ Option Shuffling : No Is Question Mandatory : No Calculator : None Response Time : N.A Think Time : N.A Minimum Instruction Time : 0

Correct Marks : 5 Wrong Marks : 1

Question Key Details :

| Key           | Value |
|---------------|-------|
| Comprehension | MCQ   |

दिखांगजन अधिनियम कधी पारित करण्यात आला?

1. 1995

2. 1996

3. 2000

4. 1998

Options :

485584146141. 1

485584146142. 2

485584146143. 3

485584146144. 4

Question Number : 152 Question Id : 48558436537 Question Type : MCQ Option Shuffling : No Is Question Mandatory : No Calculator : None Response Time : N.A Think Time : N.A Minimum Instruction Time : 0

Correct Marks : 5 Wrong Marks : 1

Question Key Details :

| Key           | Value |
|---------------|-------|
| Comprehension | MCQ   |

The causes of disability in children can be grouped into three categories which are:

- A. Factors that impinge on the child during development
- B. Factors due to school education
- C. Factors that affect before birth, both genetic and non-genetic
- D. Factors that affect the child at birth or soon after birth

Choose the correct answer from the options given below:

- 1. A, C and D only
- 2. A, B and C only
- 3. B, C and D only
- 4. A, B and D only

**Options :**

- 485584146145. 1
- 485584146146. 2
- 485584146147. 3
- 485584146148. 4

**Question Number : 152 Question Id : 48558436537 Question Type : MCQ Option Shuffling : No Is Question Mandatory : No Calculator : None Response Time : N.A Think Time : N.A Minimum Instruction Time : 0**

**Correct Marks : 5 Wrong Marks : 1**

**Question Key Details :**

| Key           | Value |
|---------------|-------|
| Comprehension | MCQ   |

सहान मुलांमध्ये विकलांगत्व खालील तीन प्रकारात मोडली जाते जसे की:

- A. विकसित होण्याची कारणे
- B. शालेय शिक्षणाचे कारणे
- C. जन्माअगोदरचे जनुकीय आणि अजनुकीय कारणे
- D. जन्मा वेळेस आणि जन्मानंतर लगेचचे

योग्य पर्याय निवडा

- 1. फक्त A, C आणि D
- 2. फक्त A, B आणि C
- 3. फक्त B, C आणि D
- 4. फक्त A, B आणि D

**Options :**

- 485584146145. 1
- 485584146146. 2
- 485584146147. 3
- 485584146148. 4

**Question Number : 153 Question Id : 48558436538 Question Type : MCQ Option Shuffling : No Is Question Mandatory : No Calculator : None Response Time : N.A Think Time : N.A Minimum Instruction Time : 0**

**Correct Marks : 5 Wrong Marks : 1**

**Question Key Details :**

| Key           | Value |
|---------------|-------|
| Comprehension | MCQ   |

\_\_\_\_\_ is the basic unit of society which looks after its members.

1. School
2. Family
3. Neighbour
4. Friends

**Options :**

485584146149. 1  
485584146150. 2  
485584146151. 3  
485584146152. 4

**Question Number : 153 Question Id : 48558436538 Question Type : MCQ Option Shuffling : No Is Question Mandatory : No Calculator : None Response Time : N.A Think Time : N.A Minimum Instruction Time : 0**

**Correct Marks : 5 Wrong Marks : 1**

**Question Key Details :**

| Key           | Value |
|---------------|-------|
| Comprehension | MCQ   |

समाजाचा मुख्य घटक जो त्याच्या सर्व सदस्यांची काळजी घेतो \_\_\_\_\_

1. शाळा
2. कुटुंब
3. शेजारी
4. मित्र

**Options :**

485584146149. 1  
485584146150. 2  
485584146151. 3  
485584146152. 4

**Question Number : 154 Question Id : 48558436539 Question Type : MCQ Option Shuffling : No Is Question Mandatory : No Calculator : None Response Time : N.A Think Time : N.A Minimum Instruction Time : 0**

**Correct Marks : 5 Wrong Marks : 1**

**Question Key Details :**

| Key           | Value |
|---------------|-------|
| Comprehension | MCQ   |

In India, a senior citizen is a person belonging to which of the following age group?

1. 65 years and above
2. 60 years and above
3. 70 years and above
4. 80 years and above

**Options :**

485584146153. 1  
485584146154. 2  
485584146155. 3  
485584146156. 4

Question Number : 154 Question Id : 48558436539 Question Type : MCQ Option Shuffling : No Is Question Mandatory : No Calculator : None Response Time : N.A Think Time : N.A Minimum Instruction Time : 0

Correct Marks : 5 Wrong Marks : 1

Question Key Details :

| Key           | Value |
|---------------|-------|
| Comprehension | MCQ   |

भारतात ज्येष्ठ नागरिक या वयोगटात पकडले जातात.

1. 65 वर्षे आणि अधिक
2. 60 वर्षे आणि अधिक
3. 70 वर्षे आणि अधिक
4. 80 वर्षे आणि अधिक

Options :

485584146153. 1  
485584146154. 2  
485584146155. 3  
485584146156. 4

Question Number : 155 Question Id : 48558436540 Question Type : MCQ Option Shuffling : No Is Question Mandatory : No Calculator : None Response Time : N.A Think Time : N.A Minimum Instruction Time : 0

Correct Marks : 5 Wrong Marks : 1

Question Key Details :

| Key           | Value |
|---------------|-------|
| Comprehension | MCQ   |

In which year, Ministry of Youth Affairs and Sports adopted the National Youth Policy?

1. 2005
2. 2003
3. 2004
4. 2010

Options :

485584146157. 1  
485584146158. 2  
485584146159. 3  
485584146160. 4

Question Number : 155 Question Id : 48558436540 Question Type : MCQ Option Shuffling : No Is Question Mandatory : No Calculator : None Response Time : N.A Think Time : N.A Minimum Instruction Time : 0

Correct Marks : 5 Wrong Marks : 1

Question Key Details :

| Key           | Value |
|---------------|-------|
| Comprehension | MCQ   |

युवा व्यवहार आणि क्रीडा मंत्रालयाने 'राष्ट्रीय युवक धोरण' कधी स्वीकारले?

1. 2005
2. 2003
3. 2004
4. 2010

**Options :**

485584146157. 1
485584146158. 2
485584146159. 3
485584146160. 4

**Question Number : 156 Question Id : 48558436541 Question Type : MCQ Option Shuffling : No Is Question Mandatory : No Calculator : None Response Time : N.A Think Time : N.A Minimum Instruction Time : 0**

**Correct Marks : 5 Wrong Marks : 1**

**Question Key Details :**

| Key           | Value |
|---------------|-------|
| Comprehension | MCQ   |

Name the psychologist who outlined the great need that children have for a concerned, caring and knowledgeable adult.

1. Piaget
2. Freud
3. Vygotsky
4. Bruner

**Options :**

485584146161. 1
485584146162. 2
485584146163. 3
485584146164. 4

**Question Number : 156 Question Id : 48558436541 Question Type : MCQ Option Shuffling : No Is Question Mandatory : No Calculator : None Response Time : N.A Think Time : N.A Minimum Instruction Time : 0**

**Correct Marks : 5 Wrong Marks : 1**

**Question Key Details :**

| Key           | Value |
|---------------|-------|
| Comprehension | MCQ   |

मनोवैज्ञानिक ज्याने लहान मुलांसाठी असणाऱ्या तज्ञ प्रौढांच्या मुख्य गरजेची रुपरेषा काढली-

1. पीयाजे
2. फ्रॉईड
3. वायगॉट्स्की
4. ब्रूनर

**Options :**

485584146161. 1
485584146162. 2
485584146163. 3

485584146164. 4

Question Number : 157 Question Id : 48558436542 Question Type : MCQ Option Shuffling : No Is Question Mandatory : No Calculator :  
None Response Time : N.A Think Time : N.A Minimum Instruction Time : 0  
Correct Marks : 5 Wrong Marks : 1  
Question Key Details :

| Key           | Value |
|---------------|-------|
| Comprehension | MCQ   |

Identify the given standardisation mark.



1. ISI
2. FPO
3. AGMARK
4. Hallmark

Options :  
485584146165. 1  
485584146166. 2  
485584146167. 3  
485584146168. 4

Question Number : 157 Question Id : 48558436542 Question Type : MCQ Option Shuffling : No Is Question Mandatory : No Calculator :  
None Response Time : N.A Think Time : N.A Minimum Instruction Time : 0  
Correct Marks : 5 Wrong Marks : 1  
Question Key Details :

| Key           | Value |
|---------------|-------|
| Comprehension | MCQ   |

खालील दिलेली मानक सूच ओळखा



1. ISI
2. FPO
3. AGMARK
4. FSSAI

**Options :**

485584146165. 1  
485584146166. 2  
485584146167. 3  
485584146168. 4

**Question Number : 158 Question Id : 48558436543 Question Type : MCQ Option Shuffling : No Is Question Mandatory : No Calculator : None Response Time : N.A Think Time : N.A Minimum Instruction Time : 0**

**Correct Marks : 5 Wrong Marks : 1**

**Question Key Details :**

| Key           | Value |
|---------------|-------|
| Comprehension | MCQ   |

A process through which buyer makes decisions about purchasing is known as \_\_\_\_\_.

1. Consumer behaviour
2. Consumer right
3. Consumer footfall
4. Consumer expectation

**Options :**

485584146169. 1  
485584146170. 2  
485584146171. 3  
485584146172. 4

**Question Number : 158 Question Id : 48558436543 Question Type : MCQ Option Shuffling : No Is Question Mandatory : No Calculator : None Response Time : N.A Think Time : N.A Minimum Instruction Time : 0**

**Correct Marks : 5 Wrong Marks : 1**

**Question Key Details :**

| Key           | Value |
|---------------|-------|
| Comprehension | MCQ   |

खरेदी करणारा ज्या प्रक्रियेद्वारे खरेदीचा निर्णय घेतो, त्या प्रक्रियेला \_\_\_\_\_ म्हणतात.

1. ग्राहकाची वर्तणूक
2. ग्राहक हक्क
3. ग्राहकाच्या पाऊलखुणा
4. ग्राहकाची अपेक्षा

**Options :**

485584146169. 1  
485584146170. 2  
485584146171. 3  
485584146172. 4

**Question Number : 159 Question Id : 48558436544 Question Type : MCQ Option Shuffling : No Is Question Mandatory : No Calculator : None Response Time : N.A Think Time : N.A Minimum Instruction Time : 0**

**Correct Marks : 5 Wrong Marks : 1**

**Question Key Details :**

| Key           | Value |
|---------------|-------|
| Comprehension | MCQ   |

Which of the following is a tool to empower and equip consumers to protect themselves from adverse market forces ?

1. Consumer education
2. Consumer problems
3. Consumer behaviour
4. Consumer responsibility

**Options :**

485584146173. 1  
485584146174. 2  
485584146175. 3  
485584146176. 4

**Question Number : 159 Question Id : 48558436544 Question Type : MCQ Option Shuffling : No Is Question Mandatory : No Calculator : None Response Time : N.A Think Time : N.A Minimum Instruction Time : 0**

**Correct Marks : 5 Wrong Marks : 1**

**Question Key Details :**

| Key           | Value |
|---------------|-------|
| Comprehension | MCQ   |

खालीलपैकी कोणते साधन ग्राहकाला बाजारपेठेतील प्रतिकूल घटकांपासून वाचण्यासाठी कायदेशीर अधिकार देते?

1. ग्राहक शिक्षण
2. ग्राहक समस्या
3. ग्राहकाची वर्तणूक
4. ग्राहकाची जबाबदारी

**Options :**

485584146173. 1  
485584146174. 2



485584146175. 3  
485584146176. 4

**Question Number : 160 Question Id : 48558436545 Question Type : MCQ Option Shuffling : No Is Question Mandatory : No Calculator :  
None Response Time : N.A Think Time : N.A Minimum Instruction Time : 0  
Correct Marks : 5 Wrong Marks : 1**

**Question Key Details :**

| Key           | Value |
|---------------|-------|
| Comprehension | MCQ   |

What is the other name for short lived fashion?

1. Fad
2. Classic
3. Style
4. Design

**Options :**

485584146177. 1  
485584146178. 2  
485584146179. 3  
485584146180. 4

**Question Number : 160 Question Id : 48558436545 Question Type : MCQ Option Shuffling : No Is Question Mandatory : No Calculator :  
None Response Time : N.A Think Time : N.A Minimum Instruction Time : 0  
Correct Marks : 5 Wrong Marks : 1**

**Question Key Details :**

| Key           | Value |
|---------------|-------|
| Comprehension | MCQ   |

कमी वेळ चालणाऱ्या रितीला काय म्हणतात?

1. फॅड
2. क्लासिक
3. स्टार्ट
4. फॅशन

**Options :**

485584146177. 1  
485584146178. 2  
485584146179. 3  
485584146180. 4

**Question Number : 161 Question Id : 48558436546 Question Type : MCQ Option Shuffling : No Is Question Mandatory : No Calculator :  
None Response Time : N.A Think Time : N.A Minimum Instruction Time : 0  
Correct Marks : 5 Wrong Marks : 1**

**Question Key Details :**

| Key           | Value |
|---------------|-------|
| Comprehension | MCQ   |

You have to purchase a dress for your sister who is tall and slim. Inclusion of which of the following will be appropriate for her?

1. Vertical lines
2. Horizontal lines
3. Dark colours
4. High waist bodice

**Options :**

485584146181. 1
485584146182. 2
485584146183. 3
485584146184. 4

**Question Number : 161 Question Id : 48558436546 Question Type : MCQ Option Shuffling : No Is Question Mandatory : No Calculator : None Response Time : N.A Think Time : N.A Minimum Instruction Time : 0**

**Correct Marks : 5 Wrong Marks : 1**

**Question Key Details :**

| Key           | Value |
|---------------|-------|
| Comprehension | MCQ   |

तुम्ही तुमच्या बहिणीसाठी एक पोशाख निवडत आहात, जी उंच आणि सडपातळ आहे. खालीलपैकी तिच्यासाठी काय योग्य आहे?

1. उभ्या रेषा
2. आडव्या रेषा
3. गडद रंग
4. कंबरेपर्यंतची चोळी

**Options :**

485584146181. 1
485584146182. 2
485584146183. 3
485584146184. 4

**Question Number : 162 Question Id : 48558436547 Question Type : MCQ Option Shuffling : No Is Question Mandatory : No Calculator : None Response Time : N.A Think Time : N.A Minimum Instruction Time : 0**

**Correct Marks : 5 Wrong Marks : 1**

**Question Key Details :**

| Key           | Value |
|---------------|-------|
| Comprehension | MCQ   |

\_\_\_\_\_ ability requires a thorough knowledge of past future trends and current future trends.

1. Analytical
2. Forecasting
3. Communication
4. Technical

**Options :**

485584146185. 1
485584146186. 2

485584146187. 3  
485584146188. 4

Question Number : 162 Question Id : 48558436547 Question Type : MCQ Option Shuffling : No Is Question Mandatory : No Calculator :  
None Response Time : N.A Think Time : N.A Minimum Instruction Time : 0

Correct Marks : 5 Wrong Marks : 1

Question Key Details :

| Key           | Value |
|---------------|-------|
| Comprehension | MCQ   |

भविष्यातील फॅशनचा कल सांगणे म्हणजे \_\_\_\_\_ कौशल्य होय.

1. पृथक्करण
2. पुर्वानुमान
3. संपर्क
4. तांत्रिक

Options :

485584146185. 1  
485584146186. 2  
485584146187. 3  
485584146188. 4

Question Number : 163 Question Id : 48558436548 Question Type : MCQ Option Shuffling : No Is Question Mandatory : No Calculator :  
None Response Time : N.A Think Time : N.A Minimum Instruction Time : 0

Correct Marks : 5 Wrong Marks : 1

Question Key Details :

| Key           | Value |
|---------------|-------|
| Comprehension | MCQ   |

\_\_\_\_\_ is the important phase in wash cycle. If it is not done properly, clothes may look grey, dull with harsh texture.

1. Water extraction
2. Rinsing
3. Drying
4. Pressing

Options :

485584146189. 1  
485584146190. 2  
485584146191. 3  
485584146192. 4

Question Number : 163 Question Id : 48558436548 Question Type : MCQ Option Shuffling : No Is Question Mandatory : No Calculator :  
None Response Time : N.A Think Time : N.A Minimum Instruction Time : 0

Correct Marks : 5 Wrong Marks : 1

Question Key Details :

| Key           | Value |
|---------------|-------|
| Comprehension | MCQ   |

हे कपडे धुण्याच्या चक्रातील महत्त्वाचा भाग आहे. जर हे व्यवस्थित केले नाही तर कपडे काळपट आणि फिकके दिसतात.

1. पाणी पिळून काढणे
2. धुणे
3. वाळवणे
4. इस्ती करणे

**Options :**

485584146189. 1  
485584146190. 2  
485584146191. 3  
485584146192. 4

**Question Number : 164 Question Id : 48558436549 Question Type : MCQ Option Shuffling : No Is Question Mandatory : No Calculator : None Response Time : N.A Think Time : N.A Minimum Instruction Time : 0**

**Correct Marks : 5 Wrong Marks : 1**

**Question Key Details :**

| Key           | Value |
|---------------|-------|
| Comprehension | MCQ   |

Which of the following colour scheme refers to a colour combination using two or three hues that lie side by side on the colour wheel?

1. Achromatic harmony
2. Accented neutral
3. Analogous harmony
4. Complementary harmony

**Options :**

485584146193. 1  
485584146194. 2  
485584146195. 3  
485584146196. 4

**Question Number : 164 Question Id : 48558436549 Question Type : MCQ Option Shuffling : No Is Question Mandatory : No Calculator : None Response Time : N.A Think Time : N.A Minimum Instruction Time : 0**

**Correct Marks : 5 Wrong Marks : 1**

**Question Key Details :**

| Key           | Value |
|---------------|-------|
| Comprehension | MCQ   |

\_\_\_\_\_ ही रंगसंगती दोन किंवा तीन रंगछटा वापरून रंगचक्रावर बाजूला लावलेली असते.

1. अवर्णी
2. निस्तेज रंगाचा
3. सहश रंगांचे सुसंवादित्व
4. परस्परपूरक सुसंवादित्व

**Options :**

485584146193. 1

485584146194. 2

485584146195. 3

485584146196. 4

**Question Number : 165 Question Id : 48558436550 Question Type : MCQ Option Shuffling : No Is Question Mandatory : No Calculator : None Response Time : N.A Think Time : N.A Minimum Instruction Time : 0**

**Correct Marks : 5 Wrong Marks : 1**

**Question Key Details :**

| Key           | Value |
|---------------|-------|
| Comprehension | MCQ   |

The term "Development Communication" was first coined by Quebral in which year?

1. 1969

2. 1970

3. 1972

4. 1974

**Options :**

485584146197. 1

485584146198. 2

485584146199. 3

485584146200. 4

**Question Number : 165 Question Id : 48558436550 Question Type : MCQ Option Shuffling : No Is Question Mandatory : No Calculator : None Response Time : N.A Think Time : N.A Minimum Instruction Time : 0**

**Correct Marks : 5 Wrong Marks : 1**

**Question Key Details :**

| Key           | Value |
|---------------|-------|
| Comprehension | MCQ   |

क्यूब्रल ने कोणत्या वर्षी 'विकास संचार' शब्द वापरला होता ?

1. 1969

2. 1970

3. 1972

4. 1974

**Options :**

485584146197. 1

485584146198. 2

485584146199. 3

485584146200. 4

**Question Number : 166 Question Id : 48558436551 Question Type : MCQ Option Shuffling : No Is Question Mandatory : No Calculator : None Response Time : N.A Think Time : N.A Minimum Instruction Time : 0**

**Correct Marks : 5 Wrong Marks : 1**

**Question Key Details :**

| Key           | Value |
|---------------|-------|
| Comprehension | MCQ   |

To create focused attention on a small village in Delhi, the Project village Chattera was started in 1969. Which newspaper was involved in this project?

1. The Times of India
2. The Hindustan Times
3. Navbharat times
4. The Hindu

**Options :**

485584146201. 1  
485584146202. 2  
485584146203. 3  
485584146204. 4

**Question Number : 166 Question Id : 48558436551 Question Type : MCQ Option Shuffling : No Is Question Mandatory : No Calculator : None Response Time : N.A Think Time : N.A Minimum Instruction Time : 0**

**Correct Marks : 5 Wrong Marks : 1**

**Question Key Details :**

| Key           | Value |
|---------------|-------|
| Comprehension | MCQ   |

दिल्लीतील एका छोट्या गावाकडे लक्ष वेधून घेण्यासाठी 1969 मध्ये "चटेरा ग्राम परियोजना" याची सुरुवात करण्यात आली. कोणते वृत्तपत्र या उपक्रमात सहभागी होते?

1. द टाइम्स ऑफ इंडिया
2. द हिंदुस्थान टाइम्स
3. नव भारत टाइम्स
4. द हिंदू

**Options :**

485584146201. 1  
485584146202. 2  
485584146203. 3  
485584146204. 4

**Question Number : 167 Question Id : 48558436552 Question Type : MCQ Option Shuffling : No Is Question Mandatory : No Calculator : None Response Time : N.A Think Time : N.A Minimum Instruction Time : 0**

**Correct Marks : 5 Wrong Marks : 1**

**Question Key Details :**

| Key           | Value |
|---------------|-------|
| Comprehension | MCQ   |

In which of the following disease condition, low fibre diet is recommended?

1. Diarrhoea
2. Constipation
3. Diabetes
4. Heart disease

**Options :**

485584146205. 1  
485584146206. 2

485584146207. 3  
485584146208. 4

**Question Number : 167 Question Id : 48558436552 Question Type : MCQ Option Shuffling : No Is Question Mandatory : No Calculator :  
None Response Time : N.A Think Time : N.A Minimum Instruction Time : 0  
Correct Marks : 5 Wrong Marks : 1**

**Question Key Details :**

| Key           | Value |
|---------------|-------|
| Comprehension | MCQ   |

कमी तंतू आहार या आजारात सुचविला जातो-

1. अतिसार (जुलाब)
2. बद्धकोष्ठता
3. मधुमेह
4. हृदय आजार

**Options :**

485584146205. 1  
485584146206. 2  
485584146207. 3  
485584146208. 4

**Question Number : 168 Question Id : 48558436553 Question Type : MCQ Option Shuffling : No Is Question Mandatory : No Calculator :  
None Response Time : N.A Think Time : N.A Minimum Instruction Time : 0  
Correct Marks : 5 Wrong Marks : 1**

**Question Key Details :**

| Key           | Value |
|---------------|-------|
| Comprehension | MCQ   |

Which of the following is a welfare catering service ?

1. Holiday camps
2. Langar
3. Clubs
4. Flight kitchens

**Options :**

485584146209. 1  
485584146210. 2  
485584146211. 3  
485584146212. 4

**Question Number : 168 Question Id : 48558436553 Question Type : MCQ Option Shuffling : No Is Question Mandatory : No Calculator :  
None Response Time : N.A Think Time : N.A Minimum Instruction Time : 0  
Correct Marks : 5 Wrong Marks : 1**

**Question Key Details :**

| Key           | Value |
|---------------|-------|
| Comprehension | MCQ   |

खालीलपैकी कोणती सेवा कल्याणकारी सेवा पुरविते?

1. सुट्टीतील शिबिर
2. कारखान्यातील उपहारगृह
3. मंडळ
4. मोबाईल कॅटरिंग

**Options :**

485584146209. 1  
485584146210. 2  
485584146211. 3  
485584146212. 4

**Question Number : 169 Question Id : 48558436554 Question Type : MCQ Option Shuffling : No Is Question Mandatory : No Calculator : None Response Time : N.A Think Time : N.A Minimum Instruction Time : 0**

**Correct Marks : 5 Wrong Marks : 1**

**Question Key Details :**

| Key           | Value |
|---------------|-------|
| Comprehension | MCQ   |

Which of these is NOT a feature of GMP (Good Manufacturing Practice)?

1. Minimise false labelling
2. Consumer education
3. Eliminate contamination
4. Mislead consumer

**Options :**

485584146213. 1  
485584146214. 2  
485584146215. 3  
485584146216. 4

**Question Number : 169 Question Id : 48558436554 Question Type : MCQ Option Shuffling : No Is Question Mandatory : No Calculator : None Response Time : N.A Think Time : N.A Minimum Instruction Time : 0**

**Correct Marks : 5 Wrong Marks : 1**

**Question Key Details :**

| Key           | Value |
|---------------|-------|
| Comprehension | MCQ   |

खालीलपैकी कोणते माल उत्पादन पद्धतीचे लक्षण नाही?

1. कमीतकमी चुकीच्या माहितीचे वर्णन
2. ग्राहक शिक्षण
3. दुषितीकरण टाळणे
4. ग्राहकाची फसवणूक

**Options :**

485584146213. 1  
485584146214. 2  
485584146215. 3



485584146216.4

Question Number : 170 Question Id : 48558436555 Question Type : MCQ Option Shuffling : No Is Question Mandatory : No Calculator : None Response Time : N.A Think Time : N.A Minimum Instruction Time : 0

Correct Marks : 5 Wrong Marks : 1

Question Key Details :

| Key           | Value |
|---------------|-------|
| Comprehension | MCQ   |

In the context of food standards regulations, which of the following is an international reference for quality management of an organisation?

1. ISO 6000
2. ISO 7000
3. ISO 8000
4. ISO 9000

Options :

485584146217. 1  
485584146218. 2  
485584146219. 3  
485584146220. 4

Question Number : 170 Question Id : 48558436555 Question Type : MCQ Option Shuffling : No Is Question Mandatory : No Calculator : None Response Time : N.A Think Time : N.A Minimum Instruction Time : 0

Correct Marks : 5 Wrong Marks : 1

Question Key Details :

| Key           | Value |
|---------------|-------|
| Comprehension | MCQ   |

अन्नाचा दर्जा व त्याचे नियमन या संदर्भात खालीलपैकी कोणती आंतरराष्ट्रीय संस्था दर्जाचे व्यवस्थापन करते?

1. ISO 6000
2. ISO 7000
3. ISO 8000
4. ISO 9000

Options :

485584146217. 1  
485584146218. 2  
485584146219. 3  
485584146220. 4

Question Number : 171 Question Id : 48558436556 Question Type : MCQ Option Shuffling : No Is Question Mandatory : No Calculator : None Response Time : N.A Think Time : N.A Minimum Instruction Time : 0

Correct Marks : 5 Wrong Marks : 1

Question Key Details :

| Key           | Value |
|---------------|-------|
| Comprehension | MCQ   |

In the context of food safety, intentional or accidental addition of impure ingredients that alters the properties and diminishes the quality of food is known as \_\_\_\_\_.

1. Contamination
2. Toxicity
3. Adulteration
4. Hazard

**Options :**

485584146221. 1
485584146222. 2
485584146223. 3
485584146224. 4

**Question Number : 171 Question Id : 48558436556 Question Type : MCQ Option Shuffling : No Is Question Mandatory : No Calculator : None Response Time : N.A Think Time : N.A Minimum Instruction Time : 0**

**Correct Marks : 5 Wrong Marks : 1**

**Question Key Details :**

| Key           | Value |
|---------------|-------|
| Comprehension | MCQ   |

अन्नाचे रक्षण, मुद्दाम किंवा चुकून केलेले घटकांचे मिश्रण ज्यामुळे अन्नाची वैशिष्ट्ये बिघडतात आणि अन्नाची दर्जा ढासळतो, याला \_\_\_\_\_ असे म्हणतात.

1. द्वितीकरण
2. विष कालवणे
3. भेसळ करणे
4. धोका करणे

**Options :**

485584146221. 1
485584146222. 2
485584146223. 3
485584146224. 4

**Question Number : 172 Question Id : 48558436557 Question Type : MCQ Option Shuffling : No Is Question Mandatory : No Calculator : None Response Time : N.A Think Time : N.A Minimum Instruction Time : 0**

**Correct Marks : 5 Wrong Marks : 1**

**Question Key Details :**

| Key           | Value |
|---------------|-------|
| Comprehension | MCQ   |

Fortification as an intervention is used under which of the following strategies to combat public nutrition problems ?

1. Nutrient based strategy
2. Medicinal strategy
3. Diet based strategy
4. Supplement based strategy

**Options :**

485584146225. 1

485584146226. 2  
485584146227. 3  
485584146228. 4

Question Number : 172 Question Id : 48558436557 Question Type : MCQ Option Shuffling : No Is Question Mandatory : No Calculator :  
None Response Time : N.A Think Time : N.A Minimum Instruction Time : 0  
Correct Marks : 5 Wrong Marks : 1

Question Key Details :

| Key           | Value |
|---------------|-------|
| Comprehension | MCQ   |

संरक्षक हस्तक्षेप म्हणून खालीलपैकी कोणत्या कृतीयोजना नागरी पोषणाच्या समस्यांशी संघर्ष करण्यास वापरल्या जातात?

1. पोषकतत्वा कृतीयोजना
2. औषधोपचार कृतीयोजना
3. पोषक आहारासंबंधी कृतीयोजना
4. सुधारणेसंबंधी कृतीयोजना

Options :

485584146225. 1  
485584146226. 2  
485584146227. 3  
485584146228. 4

Question Number : 173 Question Id : 48558436558 Question Type : MCQ Option Shuffling : No Is Question Mandatory : No Calculator :  
None Response Time : N.A Think Time : N.A Minimum Instruction Time : 0

Correct Marks : 5 Wrong Marks : 1

Question Key Details :

| Key           | Value |
|---------------|-------|
| Comprehension | MCQ   |

Which of the following is referred to as "Hidden Hunger" in the context of nutritional problems?

1. Micronutrient deficiencies
2. Malnutrition
3. Stunting
4. Wasting

Options :

485584146229. 1  
485584146230. 2  
485584146231. 3  
485584146232. 4

Question Number : 173 Question Id : 48558436558 Question Type : MCQ Option Shuffling : No Is Question Mandatory : No Calculator :  
None Response Time : N.A Think Time : N.A Minimum Instruction Time : 0

Correct Marks : 5 Wrong Marks : 1

Question Key Details :

| Key           | Value |
|---------------|-------|
| Comprehension | MCQ   |

खालीलपैकी "लपलेली भूक" कोणत्या पोषणमूल्य समस्येशी निगडीत आहे?

1. सूक्ष्मपोषकांचा अभाव (नुटी)
2. कुपोषण
3. स्टॅन्डिंग (उंचि कमी वयाच्या मानाने)
4. वास्टिंग (उंचीव्यामानाने वजना कमी)

**Options :**

485584146229. 1  
485584146230. 2  
485584146231. 3  
485584146232. 4

**Question Number : 174 Question Id : 48558436559 Question Type : MCQ Option Shuffling : No Is Question Mandatory : No Calculator : None Response Time : N.A Think Time : N.A Minimum Instruction Time : 0**

**Correct Marks : 5 Wrong Marks : 1**

**Question Key Details :**

| Key           | Value |
|---------------|-------|
| Comprehension | MCQ   |

Which of the following government body framed the National Nutrition Policy (NNP) of India in the year 1993?

1. Department of Women and Child Development
2. Ministry of Health and Family Welfare
3. Department of Science and Technology
4. Ministry of Consumer Affairs

**Options :**

485584146233. 1  
485584146234. 2  
485584146235. 3  
485584146236. 4

**Question Number : 174 Question Id : 48558436559 Question Type : MCQ Option Shuffling : No Is Question Mandatory : No Calculator : None Response Time : N.A Think Time : N.A Minimum Instruction Time : 0**

**Correct Marks : 5 Wrong Marks : 1**

**Question Key Details :**

| Key           | Value |
|---------------|-------|
| Comprehension | MCQ   |

खालीलपैकी कोणत्या संघटनेने "राष्ट्रीय पोषण योजना" 1993 साली भारतासाठी चोकटीत तयार केली?

1. महिला आणि बालक विकास विभाग
2. अन्न आणि पोषण मंत्रालय
3. विशान आणि तंत्रज्ञान विभाग
4. ग्राहक व्यवहार मंत्रालय

**Options :**

485584146233. 1  
485584146234. 2

485584146235. 3  
485584146236. 4

Question Number : 175 Question Id : 48558436560 Question Type : MCQ Option Shuffling : No Is Question Mandatory : No Calculator :  
None Response Time : N.A Think Time : N.A Minimum Instruction Time : 0  
Correct Marks : 5 Wrong Marks : 1

Question Key Details :

| Key           | Value |
|---------------|-------|
| Comprehension | MCQ   |

Arrange the organizational structure / hierarchy followed by housekeeping department from top to bottom.

- A. Assistant housekeeper
- B. Room attendant
- C. Executive housekeeper
- D. Housemen
- E. Floor supervisor

Choose the correct answer from the options given below:

- 1. A, B, C, D, E
- 2. C, A, E, D, B
- 3. A, C, E, B, D
- 4. C, A, E, B, D

Options :

- 485584146237. 1
- 485584146238. 2
- 485584146239. 3
- 485584146240. 4

Question Number : 175 Question Id : 48558436560 Question Type : MCQ Option Shuffling : No Is Question Mandatory : No Calculator :  
None Response Time : N.A Think Time : N.A Minimum Instruction Time : 0  
Correct Marks : 5 Wrong Marks : 1

Question Key Details :

| Key           | Value |
|---------------|-------|
| Comprehension | MCQ   |

घरकाम देखरेख खात्याची संघटनात्मक रचनेचा उतरता क्रम लावा.

- A. घरकाम करणारा सहायक
- B. खोली सेवक
- C. घरकाम कार्यकारी अधिकारी
- D. घरगडी
- E. मजला पर्यवेक्षक

खालीलपैकी योग्य पर्याय निवडा

- 1. A, B, C, D, E
- 2. C, A, E, D, B
- 3. A, C, E, B, D
- 4. C, A, E, B, D

Options :

- 485584146237. 1
- 485584146238. 2

485584146239. 3  
485584146240. 4

Question Number : 176 Question Id : 48558436561 Question Type : MCQ Option Shuffling : No Is Question Mandatory : No Calculator : None Response Time : N.A Think Time : N.A Minimum Instruction Time : 0

Correct Marks : 5 Wrong Marks : 1

Question Key Details :

| Key           | Value |
|---------------|-------|
| Comprehension | MCQ   |

Give the correct sequence of different stages of apparel production.

- Finishing and packaging
- Procurement and inspection of raw material
- Laying and cutting of fabric / material
- Assembly of the product

Choose the correct answer from the options given below:

- A, B, C, D
- B, A, C, D
- D, A, B, C
- B, C, D, A

Options :

485584146241. 1  
485584146242. 2  
485584146243. 3  
485584146244. 4

Question Number : 176 Question Id : 48558436561 Question Type : MCQ Option Shuffling : No Is Question Mandatory : No Calculator : None Response Time : N.A Think Time : N.A Minimum Instruction Time : 0

Correct Marks : 5 Wrong Marks : 1

Question Key Details :

| Key           | Value |
|---------------|-------|
| Comprehension | MCQ   |

उत्पादनाच्या स्पष्ट असणाऱ्या टप्प्यांचा योग्य क्रम लावा

- बांधणे आणि पूर्ण करणे
- कच्चा मालाची खरेदी आणि चाचणी
- मालाची कापणी आणि छाटणी
- उत्पादनाची बांधणी

खालील पैकी योग्य पर्याय निवडा.

- A, B, C, D
- B, A, C, D
- D, A, B, C
- B, C, D, A

Options :

485584146241. 1  
485584146242. 2  
485584146243. 3  
485584146244. 4

Question Number : 177 Question Id : 48558436562 Question Type : MCQ Option Shuffling : No Is Question Mandatory : No Calculator : None Response Time : N.A Think Time : N.A Minimum Instruction Time : 0

Correct Marks : 5 Wrong Marks : 1

Question Key Details :

| Key           | Value |
|---------------|-------|
| Comprehension | MCQ   |

Arrange the given steps of nutritional care during illness in the correct sequence.

- Assessing nutritional status
- Planning and prioritising nutrition intervention(s)
- Diagnosis of nutritional problems
- Making changes in the nutritional care outcomes, if necessary
- Evaluating nutritional care outcomes

Choose the correct answer from the options given below:

- C, B, A, D, E
- C, E, B, A, D
- A, C, B, E, D
- A, C, B, D, E

Options :

485584146245. 1  
485584146246. 2  
485584146247. 3  
485584146248. 4

Question Number : 177 Question Id : 48558436562 Question Type : MCQ Option Shuffling : No Is Question Mandatory : No Calculator : None Response Time : N.A Think Time : N.A Minimum Instruction Time : 0

Correct Marks : 5 Wrong Marks : 1

Question Key Details :

| Key           | Value |
|---------------|-------|
| Comprehension | MCQ   |

पोषण-आहारातील काळजीचे टप्पे योग्य क्रमानुसार लावा.

- पोषणाचा दर्जा तपासणे
- पोषणातील हस्तक्षेपांचे नियमन व प्राधान्य
- समस्येचे निदान
- गरज असल्यास बदल करणे
- पोषणाच्या काळजीचे परिणाम तपासणे

खालील पैकी योग्य पर्याय निवडा

- C, B, A, D, E
- C, E, B, A, D
- A, C, B, E, D
- A, C, B, D, E

Options :

485584146245. 1  
485584146246. 2  
485584146247. 3  
485584146248. 4

Question Number : 178 Question Id : 48558436563 Question Type : MCQ Option Shuffling : No Is Question Mandatory : No Calculator : None Response Time : N.A Think Time : N.A Minimum Instruction Time : 0

Correct Marks : 5 Wrong Marks : 1

Question Key Details :

| Key           | Value |
|---------------|-------|
| Comprehension | MCQ   |

Which of the following is NOT a department/sector in hospitality industry?

1. Recruitment and staffing
2. Entertainment and recreation
3. Accommodation or front office
4. Food and beverage service

Options :

485584146249. 1  
485584146250. 2  
485584146251. 3  
485584146252. 4

Question Number : 178 Question Id : 48558436563 Question Type : MCQ Option Shuffling : No Is Question Mandatory : No Calculator : None Response Time : N.A Think Time : N.A Minimum Instruction Time : 0

Correct Marks : 5 Wrong Marks : 1

Question Key Details :

| Key           | Value |
|---------------|-------|
| Comprehension | MCQ   |

खालीलपैकी कोणते खाते आतिथ्य नियमनाचे महत्त्वा खाते आहे?

- A. मनोरंजन आणि पुनरावृत्ती
- B. भरती आणि अधिकारी नेमणूक
- C. समायोजन किंवा कार्यालय
- D. अन्न आणि पेय सेवा
- E. प्रशिक्षण आणि विकास

खालील पैकी योग्य पर्याय निवडा:

1. A, C E आणि D फक्त
2. A, B आणि C फक्त
3. A, B आणि D फक्त
4. A, B आणि E फक्त

Options :

485584146249. 1  
485584146250. 2  
485584146251. 3  
485584146252. 4

Question Number : 179 Question Id : 48558436564 Question Type : MCQ Option Shuffling : No Is Question Mandatory : No Calculator : None Response Time : N.A Think Time : N.A Minimum Instruction Time : 0

Correct Marks : 5 Wrong Marks : 1

Question Key Details :

| Key           | Value |
|---------------|-------|
| Comprehension | MCQ   |



Which of the following falls under the category of rewards given to sustain high performance employees in an organisation ?

- A. Paid holidays
- B. Tax incentives
- C. Financial packages for children's education
- D. Financial compensation like driver's wages
- E. Disability insurance

Choose the correct answer from the options given below:

- 1. A, C and E only
- 2. A, C and D only
- 3. A, D and E only
- 4. B, C and D only

**Options :**

- 485584146253. 1
- 485584146254. 2
- 485584146255. 3
- 485584146256. 4

**Question Number : 179 Question Id : 48558436564 Question Type : MCQ Option Shuffling : No Is Question Mandatory : No Calculator : None Response Time : N.A Think Time : N.A Minimum Instruction Time : 0**

**Correct Marks : 5 Wrong Marks : 1**

**Question Key Details :**

| Key           | Value |
|---------------|-------|
| Comprehension | MCQ   |

खालीलपैकी कोणत्या बक्षिसांचा समावेश केला जाऊ शकतो उच्च दर्जाचे कष्टाळू नोकरदार संघटनेत टिकवण्यासाठी?

- A. पगारी सुट्ट्या
- B. कर प्रलौभन
- C. मुलांच्या शिक्षणासाठी आर्थिक मदत
- D. वाहकाच्या पगारात आर्थिक भरपाई
- E. विकलांग विमा

योग्य पर्याय निवडा

- 1. A, C आणि E फक्त
- 2. A, C आणि D फक्त
- 3. A, D आणि E फक्त
- 4. B, C आणि D फक्त

**Options :**

- 485584146253. 1
- 485584146254. 2
- 485584146255. 3
- 485584146256. 4

**Question Number : 180 Question Id : 48558436565 Question Type : MCQ Option Shuffling : No Is Question Mandatory : No Calculator : None Response Time : N.A Think Time : N.A Minimum Instruction Time : 0**

**Correct Marks : 5 Wrong Marks : 1**

**Question Key Details :**

| Key           | Value |
|---------------|-------|
| Comprehension | MCQ   |

Which of the following is NOT a function of human resources/talent management?

1. Marketing management
2. Getting the best employees
3. Retention and redressal
4. Training and developing employees

Options :

485584146257. 1

485584146258. 2

485584146259. 3

485584146260. 4

Question Number : 180 Question Id : 48558436565 Question Type : MCQ Option Shuffling : No Is Question Mandatory : No Calculator : None Response Time : N.A Think Time : N.A Minimum Instruction Time : 0

Correct Marks : 5 Wrong Marks : 1

Question Key Details :

| Key           | Value |
|---------------|-------|
| Comprehension | MCQ   |

संघटनेची उत्पादकता वाढविण्यासाठी मानव संसाधन व्यवस्थापन HRM कशावर लक्ष्य केंद्रीत करते

- A. कर्मचारी विकास
- B. विक्रित सुधारणा
- C. नोकरदारांचे समाधान
- D. जाहिरातीकरणाचे व्यवस्थापन
- E. नियम पाळणे

खालीलपैकी योग्य पर्याय निवडा.

1. A, C आणि E फक्त
2. A, B आणि C फक्त
3. A, B आणि D फक्त
4. A, D आणि E फक्त

Options :

485584146257. 1

485584146258. 2

485584146259. 3

485584146260. 4

Question Number : 181 Question Id : 48558436566 Question Type : MCQ Option Shuffling : No Is Question Mandatory : No Calculator : None Response Time : N.A Think Time : N.A Minimum Instruction Time : 0

Correct Marks : 5 Wrong Marks : 1

Question Key Details :

| Key           | Value |
|---------------|-------|
| Comprehension | MCQ   |

A diet can be modified to meet the medical needs of a patient through which of the following?

- A. Changing consistency and/or texture
- B. Adding supplements
- C. Increase or decrease in the amount of one or more nutrients
- D. Increase or decrease in calorie intake
- E. Making an all fruit diet

Choose the correct answer from the options given below:

- 1. A, B and E only
- 2. A, C and E only
- 3. B, C and D only
- 4. A, C and D only

**Options :**

- 485584146261. 1
- 485584146262. 2
- 485584146263. 3
- 485584146264. 4

**Question Number : 181 Question Id : 48558436566 Question Type : MCQ Option Shuffling : No Is Question Mandatory : No Calculator : None Response Time : N.A Think Time : N.A Minimum Instruction Time : 0**

**Correct Marks : 5 Wrong Marks : 1**

**Question Key Details :**

| Key           | Value |
|---------------|-------|
| Comprehension | MCQ   |

व्यक्तीच्या प्रकृतीनुसारच्या गरजा पूर्ण करण्यासाठी आहारात बदल केले जाऊ शकतात, जसे की

- A. सातत्य बदलणे किंवा पोत बदलणे
- B. सुधारित तत्वे टाकणे
- C. पोषकद्रव्ये कमी किंवा जास्त देणे
- D. उर्जास्त्रोत पदार्थाचे कमी किंवा जास्त सेवन
- E. फळयुक्त आहार बनवणे

खालीलपैकी योग्य पर्याय निवडा.

- 1. A, B आणि E फक्त
- 2. A, C आणि E फक्त
- 3. B, C आणि D फक्त
- 4. A, C आणि D फक्त

**Options :**

- 485584146261. 1
- 485584146262. 2
- 485584146263. 3
- 485584146264. 4

**Question Number : 182 Question Id : 48558436567 Question Type : MCQ Option Shuffling : No Is Question Mandatory : No Calculator : None Response Time : N.A Think Time : N.A Minimum Instruction Time : 0**

**Correct Marks : 5 Wrong Marks : 1**

**Question Key Details :**

| Key | Value |
|-----|-------|
|-----|-------|

Shreya wants to design a dress by incorporating rhythm design principle. Which of the following can NOT be used to create rhythm?

1. Use of contrasting colours
2. Cordation
3. Radiation
4. Parallelism

**Options :**

485584146265. 1  
485584146266. 2  
485584146267. 3  
485584146268. 4

**Question Number : 182 Question Id : 48558436567 Question Type : MCQ Option Shuffling : No Is Question Mandatory : No Calculator : None Response Time : N.A Think Time : N.A Minimum Instruction Time : 0**

**Correct Marks : 5 Wrong Marks : 1**

**Question Key Details :**

| Key           | Value |
|---------------|-------|
| Comprehension | MCQ   |

श्रेयाला लयशीर पद्धतीने पोषाख तयार करावयाचा आहे. लयशीर पद्धतीचा योग्य क्रम कोणता ते सांगा.

- A. पुनरावृत्ती
- B. श्रमीदार लावणे
- C. औपचारिकता
- D. विकिरण
- E. तुलनात्मक

खालीलपैकी योग्य पर्याय निवडा

1. A, B, D, E फक्त
2. A, B, C, E फक्त
3. B, C, D, E फक्त
4. A, C, D, E फक्त

**Options :**

485584146265. 1  
485584146266. 2  
485584146267. 3  
485584146268. 4

**Question Number : 183 Question Id : 48558436568 Question Type : MCQ Option Shuffling : No Is Question Mandatory : No Calculator : None Response Time : N.A Think Time : N.A Minimum Instruction Time : 0**

**Correct Marks : 5 Wrong Marks : 1**

**Question Key Details :**

| Key           | Value |
|---------------|-------|
| Comprehension | MCQ   |

Identify the aspects relating to care and maintenance of fabrics:

- A. Keeping the material free of physical damage
- B. Discard clothes if any damage occurs
- C. Refreshing or retaining the appearance by removing stains and dirt
- D. Retaining the textural and visual characteristics
- E. Changing the visual characteristics

Choose the correct answer from the options given below:

- 1. A, B and C only
- 2. B, C and D only
- 3. C, D and E only
- 4. A, C and D only

**Options :**

485584146269. 1

485584146270. 2

485584146271. 3

485584146272. 4

**Question Number : 183 Question Id : 48558436568 Question Type : MCQ Option Shuffling : No Is Question Mandatory : No Calculator : None Response Time : N.A Think Time : N.A Minimum Instruction Time : 0**

**Correct Marks : 5 Wrong Marks : 1**

**Question Key Details :**

| Key           | Value |
|---------------|-------|
| Comprehension | MCQ   |

सुताची काळजी आणि सांभाळ यात काही गोष्टी समाविष्ट असतात. त्या गोष्टी कोणत्या ते ओळखा.

- A. भौतिक नुकसानापासून मालाला सुरक्षित ठेवणे
- B. नुकसान झालेले कपडे फेकून देणे
- C. डाग व धूळ काढून त्यांना ताजेतवा किंवा टवटवीत करणे
- D. त्यांचा पोत आणि लक्षणिक गुणवैशिष्ट्ये राखून ठेवणे
- E. हक्क गुणवैशिष्ट्य बदलणे

खालील पैकी योग्य तो पर्याय निवडा

- 1. A, B आणि C फक्त
- 2. B, C आणि D फक्त
- 3. C, D आणि E फक्त
- 4. A, C आणि D फक्त

**Options :**

485584146269. 1

485584146270. 2

485584146271. 3

485584146272. 4

**Question Number : 184 Question Id : 48558436569 Question Type : MCQ Option Shuffling : No Is Question Mandatory : No Calculator : None Response Time : N.A Think Time : N.A Minimum Instruction Time : 0**

**Correct Marks : 5 Wrong Marks : 1**

**Question Key Details :**

| Key | Value |
|-----|-------|
|-----|-------|

Which of the following does NOT fall under the category of straight lines ?

1. Vertical
2. Zig-zag
3. Horizontal
4. Diagonal

**Options :**

485584146273. 1  
485584146274. 2  
485584146275. 3  
485584146276. 4

**Question Number : 184 Question Id : 48558436569 Question Type : MCQ Option Shuffling : No Is Question Mandatory : No Calculator : None Response Time : N.A Think Time : N.A Minimum Instruction Time : 0**

**Correct Marks : 5 Wrong Marks : 1**

**Question Key Details :**

| Key           | Value |
|---------------|-------|
| Comprehension | MCQ   |

खालील पैकी कोण कोण सरळरेषा या प्रकारात मोडतात?

- A. उभ्या
- B. अन्वस्तीय
- C. आडव्या
- D. कर्ण
- E. कमानिय (कमान)

खालीलपैकी योग्य पर्याय निवडा

1. A, B आणि C फक्त
2. A, C आणि D फक्त
3. A, B आणि E फक्त
4. C, D आणि E फक्त

**Options :**

485584146273. 1  
485584146274. 2  
485584146275. 3  
485584146276. 4

**Question Number : 185 Question Id : 48558436570 Question Type : MCQ Option Shuffling : No Is Question Mandatory : No Calculator : None Response Time : N.A Think Time : N.A Minimum Instruction Time : 0**

**Correct Marks : 5 Wrong Marks : 1**

**Question Key Details :**

| Key           | Value |
|---------------|-------|
| Comprehension | MCQ   |

Match List I with List II

| LIST I<br>(Processed foods) | LIST II<br>(Examples) |
|-----------------------------|-----------------------|
| A. Preserved foods          | I. Low sodium salt    |
| B. Manufactured foods       | II. Canned fruits     |
| C. Formulated foods         | III. Papads           |
| D. Medical foods            | IV. Ice creams        |

Choose the correct answer from the options given below:

1. A-I, B-II, C-III, D-IV
2. A-II, B-III, C-I, D-IV
3. A-III, B-II, C-I, D-IV
4. A-II, B-III, C-IV, D-I

Options :

485584146277. 1  
485584146278. 2  
485584146279. 3  
485584146280. 4

Question Number : 185 Question Id : 48558436570 Question Type : MCQ Option Shuffling : No Is Question Mandatory : No Calculator : None Response Time : N.A Think Time : N.A Minimum Instruction Time : 0

Correct Marks : 5 Wrong Marks : 1

Question Key Details :

| Key           | Value |
|---------------|-------|
| Comprehension | MCQ   |

रकाना 1 च्या रकाना 2 बरोबर जोड्या लावा

| यादी I<br>(अन्न)          | यादी II<br>(उदाहरण) |
|---------------------------|---------------------|
| A. शीतवातेले अन्न         | I. सोडियममुक्त मीठ  |
| B. उत्पादन केलेले अन्न    | II. बाटलीबंद फळे    |
| C. सुत्राबद्ध केलेले अन्न | III. मापड           |
| D. औषधी अन्न              | IV. आर्द्रास्किम    |

खालीलपैकी योग्य पर्याय निवडा

1. A-I, B-II, C-III, D-IV
2. A-II, B-III, C-I, D-IV
3. A-III, B-II, C-I, D-IV
4. A-II, B-III, C-IV, D-I

Options :

485584146277. 1  
485584146278. 2  
485584146279. 3  
485584146280. 4

Question Number : 186 Question Id : 48558436571 Question Type : MCQ Option Shuffling : No Is Question Mandatory : No Calculator : None Response Time : N.A Think Time : N.A Minimum Instruction Time : 0

Correct Marks : 5 Wrong Marks : 1

Question Key Details :

| Key | Value |
|-----|-------|
|-----|-------|

Match List I with List II

| LIST I<br>(Terms) | LIST II<br>(Explanation)  |
|-------------------|---|
| A. Food Quality   | I. Assurance that food will not cause any harm to the consumers   |
| B. Toxicity       | II. Relative probability that harm or injury will result when substance is not used in prescribed manner and quantity |
| C. Food Safety    | III. Capacity of a substance to produce harm or injury of any kind under any conditions                               |
| D. Hazard         | IV. Attributes that influence a product's value to consumers  |

Choose the correct answer from the options given below:

1. A-IV, B-III, C-I, D-II
2. A-I, B-II, C-III, D-IV
3. A-I, B-IV, C-II, D-III
4. A-IV, B-III, C-II, D-I

Options :

485584146281. 1  
485584146282. 2  
485584146283. 3  
485584146284. 4

Question Number : 186 Question Id : 48558436571 Question Type : MCQ Option Shuffling : No Is Question Mandatory : No Calculator : None Response Time : N.A Think Time : N.A Minimum Instruction Time : 0

Correct Marks : 5 Wrong Marks : 1

Question Key Details :

| Key           | Value |
|---------------|-------|
| Comprehension | MCQ   |

यादी 1 व यादी 2 जोडया चुळवा

| यादी I<br>(मुद्दे) | यादी II<br>(स्पष्टीकरण)   |
|--------------------|---|
| A. अन्नचा दर्जा    | I. अन्नमुळे काही नुकसान होणार नाही अशी पूर्ण करत.                       |
| B. विषमपता         | II. नेमून दिल्याप्रमाणे न घेतल्यास निकातावर परिणाम किंवा बदल घटवून आणत. |
| C. अन्नाची सुरक्षा | III. घादाचा नुकसान करण्याची क्षमता.                                     |
| D. धोका            | IV. ग्राहकांच्या दृष्टीने उत्पादनाच्या मूल्यावर प्रभाव पाडणारे घटक.     |

योग्य पर्याय निवडा

1. A-IV, B-III, C-I, D-II
2. A-I, B-II, C-III, D-IV
3. A-I, B-IV, C-II, D-III
4. A-IV, B-III, C-II, D-I

Options :

485584146281. 1  
485584146282. 2  
485584146283. 3  
485584146284. 4

Question Number : 187 Question Id : 48558436572 Question Type : MCQ Option Shuffling : No Is Question Mandatory : No Calculator : None Response Time : N.A Think Time : N.A Minimum Instruction Time : 0

Correct Marks : 5 Wrong Marks : 1



**Question Key Details :**

|               |              |
|---------------|--------------|
| <b>Key</b>    | <b>Value</b> |
| Comprehension | MCQ          |

Match List I with List II

| LIST I<br>(Extension Projects) |                          | LIST II<br>(Communication tools used) |             |
|--------------------------------|--------------------------|---------------------------------------|-------------|
| A.                             | RRE                      | I.                                    | Satellite   |
| B.                             | SEWA                     | II.                                   | Print media |
| C.                             | Project Village Chhatera | III.                                  | Campaign    |
| D.                             | EDUSAT                   | IV.                                   | ICT         |

Choose the correct answer from the options given below:

1. A-II, B-I, C-IV, D-III
2. A-IV, B-I, C-III, D-II
3. A-III, B-IV, C-II, D-I
4. A-II, B-III, C-I, D-IV

**Options :**

485584146285. 1  
485584146286. 2  
485584146287. 3  
485584146288. 4

Question Number : 187 Question Id : 48558436572 Question Type : MCQ Option Shuffling : No Is Question Mandatory : No Calculator : None Response Time : N.A Think Time : N.A Minimum Instruction Time : 0

Correct Marks : 5 Wrong Marks : 1

**Question Key Details :**

|               |              |
|---------------|--------------|
| <b>Key</b>    | <b>Value</b> |
| Comprehension | MCQ          |

यादी I यादी 2 बरोबर जुळवा

| यादी I<br>(विस्तारित उपक्रम) | यादी II<br>(वापरलेले संपर्क साधने) |
|------------------------------|------------------------------------|
| A. RRE                       | I. दूरचित्रवाणी संचार              |
| B. SEWA                      | II. चित्र माध्यम                   |
| C. छटेरा खंडे प्रकल्प        | III. मोहिम                         |
| D. EDUSAT                    | IV. ICT                            |

योग्य पर्याय निवडा

1. A-II, B-I, C-IV, D-III
2. A-IV, B-I, C-III, D-II
3. A-III, B-IV, C-II, D-I
4. A-II, B-III, C-I, D-IV

**Options :**

485584146285. 1  
485584146286. 2  
485584146287. 3  
485584146288. 4

Question Number : 188 Question Id : 48558436573 Question Type : MCQ Option Shuffling : No Is Question Mandatory : No Calculator : None Response Time : N.A Think Time : N.A Minimum Instruction Time : 0

Correct Marks : 5 Wrong Marks : 1

Question Key Details :

| Key           | Value |
|---------------|-------|
| Comprehension | MCQ   |

Match List I with List II

| LIST I<br>(Terms)     |      | LIST II<br>(Description)  |  |
|-----------------------|------|---|--|
| A. Quality Assurance  | I.   | Process of implementation and monitoring of quality systems like TQM, ISO             |  |
| B. Quality control    | II.  | Process of problem solving with the purpose of getting a 'zero-defect' product        |  |
| C. Quality Management | III. | Characteristics of the product that are given by the buyer or desired by the consumer |  |
| D. Specifications     | IV.  | Process of preventive problem management  |  |

Choose the correct answer from the options given below:

1. A-IV, B-II, C-I, D-III
2. A-IV, B-I, C-II, D-III
3. A-IV, B-II, C-III, D-I
4. A-I, B-II, C-IV, D-III

Options :

485584146289. 1  
485584146290. 2  
485584146291. 3  
485584146292. 4

Question Number : 188 Question Id : 48558436573 Question Type : MCQ Option Shuffling : No Is Question Mandatory : No Calculator : None Response Time : N.A Think Time : N.A Minimum Instruction Time : 0

Correct Marks : 5 Wrong Marks : 1

Question Key Details :

| Key           | Value |
|---------------|-------|
| Comprehension | MCQ   |

जोड्या जुळवा

| यादी I<br>(मुद्दे)     | यादी II<br>(अर्थ)   |
|------------------------|---|
| A. गुणवत्तेची खात्री   | I. गुणवत्ता प्राणालीचा वापर व कार्यवाही                                     |
| B. गुणवत्ता निर्धारण   | II. पूर्ण दोषरहित वस्तू मिळणे या उद्देशातून केलेली समस्या निराकरण प्रक्रिया |
| C. गुणवत्ता व्यवस्थापन | III. दोषपूर्ण वस्तूचे खरेदीकर्त्याने सांगितलेले गुणधर्ष                     |
| D. विशिष्टीकरण         | IV. प्रतिबंधात्मक समस्या व्यवस्थापनाची प्रक्रिया                            |

योग्य पर्याय निवडा

1. A-IV, B-II, C-I, D-III
2. A-IV, B-I, C-II, D-III
3. A-IV, B-II, C-III, D-I
4. A-I, B-II, C-IV, D-III

Options :

485584146289. 1  
485584146290. 2  
485584146291. 3

Question Number : 189 Question Id : 48558436574 Question Type : MCQ Option Shuffling : No Is Question Mandatory : No Calculator : None Response Time : N.A Think Time : N.A Minimum Instruction Time : 0  
Correct Marks : 5 Wrong Marks : 1

Question Key Details :

| Key           | Value |
|---------------|-------|
| Comprehension | MCQ   |

Match List I with List II

| LIST I<br>(Designations) | LIST II<br>(Duties)   |
|--------------------------|---|
| A. Head waiter           | I. Reserves, registers and assign rooms to guests               |
| B. Chef-de-cuisine       | II. Supervisors for some sections of the kitchen                |
| C. Receptionist          | III. Lead a team of waiters/stewards                            |
| D. Chef-de-parties       | IV. Planning, organising and controlling the kitchen operations |

Choose the correct answer from the options given below:

1. A-III, B-IV, C-I, D-II
2. A-II, B-IV, C-III, D-I
3. A-I, B-II, C-III, D-IV
4. A-IV, B-II, C-I, D-III

Options :

485584146293. 1  
485584146294. 2  
485584146295. 3  
485584146296. 4

Question Number : 189 Question Id : 48558436574 Question Type : MCQ Option Shuffling : No Is Question Mandatory : No Calculator : None Response Time : N.A Think Time : N.A Minimum Instruction Time : 0  
Correct Marks : 5 Wrong Marks : 1

Question Key Details :

| Key           | Value |
|---------------|-------|
| Comprehension | MCQ   |

यादी 1 व यादी 2 जोडवा लावा

| यादी I<br>(दुद्द) | यादी II<br>(जबाबदारी)               |
|-------------------|-------------------------------------|
| A. मुख्य बादपी    | I. मुख्य कार्यालय विभाग(दर्शनी भाग) |
| B. स्वंपपाकी      | II. घरकाम विभाग                     |
| C. स्वागतकक्ष     | III. अन्न आणि पेय विभाग             |
| D. मुख्य घरगडी    | IV. स्वंपपाक विभाग                  |

योग्य पर्याय निवडा

1. A-III, B-IV, C-I, D-II
2. A-II, B-IV, C-III, D-I
3. A-I, B-II, C-III, D-IV
4. A-IV, B-II, C-I, D-III

Options :

485584146293. 1

485584146294. 2  
485584146295. 3  
485584146296. 4

Question Number : 190 Question Id : 48558436575 Question Type : MCQ Option Shuffling : No Is Question Mandatory : No Calculator :  
None Response Time : N.A Think Time : N.A Minimum Instruction Time : 0  
Correct Marks : 5 Wrong Marks : 1

Question Key Details :

| Key           | Value |
|---------------|-------|
| Comprehension | MCQ   |

Match List I with List II

| LIST I<br>(Programme) | LIST II<br>(Target group)            |
|-----------------------|--------------------------------------|
| A. ICDS               | I. Children under 18 years of age    |
| B. SOS                | II. College going students           |
| C. Special homes      | III. Children below six years of age |
| D. NSS                | IV. Needy/abandoned children         |

Choose the correct answer from the options given below:

1. A-I, B-IV, C-II, D-I
2. A-IV, B-III, C-I, D-II
3. A-III, B-IV, C-I, D-II
4. A-IV, B-III, C-II, D-I

Options :

485584146297. 1  
485584146298. 2  
485584146299. 3  
485584146300. 4

Question Number : 190 Question Id : 48558436575 Question Type : MCQ Option Shuffling : No Is Question Mandatory : No Calculator :  
None Response Time : N.A Think Time : N.A Minimum Instruction Time : 0  
Correct Marks : 5 Wrong Marks : 1

Question Key Details :

| Key           | Value |
|---------------|-------|
| Comprehension | MCQ   |

जोड्या लावा

| पाटी I<br>(कार्यक्रम) | पाटी II<br>(लक्ष्य घर)                |
|-----------------------|---------------------------------------|
| A. ICDS               | I. मुलांचे घर                         |
| B. SOS                | II. पुर्वकासाठी कार्यक्रम             |
| C. विशेष घरे          | III. मुलांसाठी कार्यक्रम              |
| D. NSS                | IV. कुटुंबाप्रमाणे काळजी ही दृष्टीकोन |

योग्य पर्याय निवडा

1. A-I, B-IV, C-II, D-I
2. A-IV, B-III, C-I, D-II
3. A-III, B-IV, C-I, D-II
4. A-IV, B-III, C-II, D-I

**Options :**

- 485584146297. 1
- 485584146298. 2
- 485584146299. 3
- 485584146300. 4

Sub-Section Number : 2  
 Sub-Section Id : 4855842700  
 Question Shuffling Allowed : No  
 Is Section Default? : null

Question Number : 191 Question Id : 48558436576 Question Type : MCQ Option Shuffling : No Is Question Mandatory : No Calculator :  
 None Response Time : N.A Think Time : N.A Minimum Instruction Time : 0  
 Correct Marks : 5 Wrong Marks : 1

**Question Key Details :**

| Key           | Value |
|---------------|-------|
| Comprehension | Comp1 |

**Read the passage carefully. Attempt Question**

Anganwadi Centers (AWCs) are the most common and publicly available facilities, initially constituted in 1975 to strengthen the public health system by providing immunization and health check-ups, and later to provide supplementary nutrition non-formal pre-school education and day-care.

The two key elements of early childhood development include education and health. A child's early years (0 to 8 years) form the foundation of all learning and are therefore the most extraordinary period of development in a child's life. Research has shown that greater cognitive abilities and being developmentally on track with literacy and numeracy in childhood provide for better learning in school and higher educational attainment, leading to major social and economic gains for society in the long run. Similarly, providing children with a nurturing environment in early years, with adequate nutrition, hygiene, protection and responsive stimulation, boosts healthy childhood development and delivers positive outcomes.

The Anganwadi centers were started in which year in India?

- 1. 1975
- 2. 1980
- 3. 1982
- 4. 1984

**Options :**

- 485584146301. 1
- 485584146302. 2
- 485584146303. 3
- 485584146304. 4

Question Number : 191 Question Id : 48558436576 Question Type : MCQ Option Shuffling : No Is Question Mandatory : No Calculator :  
 None Response Time : N.A Think Time : N.A Minimum Instruction Time : 0  
 Correct Marks : 5 Wrong Marks : 1

**Question Key Details :**

| Key           | Value |
|---------------|-------|
| Comprehension | Comp1 |

अंगणवाडी केंद्र या मुख्यतः सर्वसाधारण जनतेला उपलब्ध असलेल्या सुविदा पैकी एक 1975 साली यांची सुरुवात झाली, ज्यामुळे खार्वजनिक आरोग्य, लक्षीकरण आणि आरोग्य तपासणी असे कार्यक्रमांना बळ मिळले व नंतर लहान मुलांना पोषक आईहा, शिक्षण ाणि काळजी हे ही यांनी पोहचविले तरीही अंगणवाडीतील कमतरता आणि दुर्मिळ उर्जेची सेवा याची नोंद झालेली आहे. आज 51% दारिद्र्य रेषेखालील कुटुंबातील मुले अंगणवाडीत येतात, तर अर्धपेक्षा जास्त 20% घटकाम करण्याची मुले खाजगी सोयींचा लाभ घेतात. अंगणवाडीचा असा दुर्मिळ आणि विषम वापरामुळे भारताचा मानवी मुखांक निर्देशांक क्रमवारी 174 देशांपैकी 116 वा 2020 मध्ये इतका होता आणि तसेच जागतिक भूकेचे निर्देशांकाल 107 देशांपैकी 98 ला 2020 मध्ये होता.

दोन मुलभूत तत्वे लहान मुलांच्या विकासाचे म्हणजे शिक्षण आणि आरोग्य, 0 ते 8 वयोगटातील लहान मुलांच्या सर्वांगीण शिक्षणाचा पाया असतो. त्यामुळे हा अतिशय म्हत्वाचा टप्पा आहे. त्यांच्या आयुष्याचा संशोधनाने असे कळले की मुख्य ज्ञानात्मक क्षमतेमुळे आमि विकसनसिलतेमुळे साक्षरता आणि ससंख्यता लहान वयातच मिळते ज्यामुळे उच्च शिक्षण साठी मदत होते. आणि सामाजिक आणि िर्थिक साघ्यता समाजाला मिळते. या सारखेच मुलांना लहान वयातच निसर्ग जतन करण्याचे जोपासले. या बरोबर उत्तम आहार, आरोग्याची काळजी, जतन, लहान मुलांचे आरोग्य सुधारणे या सर्वांमुळे उत्तम फळ मिळणे शक्य होते.

अंगणवाडी केंद्र भारतात कोणत्या वर्षी सुरु केले गेले?

1. 1975
2. 1980
3. 1982
4. 1984

Options :

485584146301. 1  
485584146302. 2  
485584146303. 3  
485584146304. 4

Question Number : 192 Question Id : 48558436577 Question Type : MCQ Option Shuffling : No Is Question Mandatory : No Calculator : None Response Time : N.A Think Time : N.A Minimum Instruction Time : 0

Correct Marks : 5 Wrong Marks : 1

Question Key Details :

| Key           | Value |
|---------------|-------|
| Comprehension | Comp1 |

**Read the passage carefully. Attempt Question**

Anganwadi Centers (AWCs) are the most common and publicly available facilities, initially constituted in 1975 to strengthen the public health system by providing immunization and health check-ups, and later to provide supplementary nutrition non-formal pre-school education and day-care.

The two key elements of early childhood development include education and health. A child's early years (0 to 8 years) form the foundation of all learning and are therefore the most extraordinary period of development in a child's life. Research has shown that greater cognitive abilities and being developmentally on track with literacy and numeracy in childhood provide for better learning in school and higher educational attainment, leading to major social and economic gains for society in the long run. Similarly, providing children with a nurturing environment in early years, with adequate nutrition, hygiene, protection and responsive stimulation, boosts healthy childhood development and delivers positive outcomes.

Identify the functions of the Anganwadi centres from the following:

- A. Providing immunisation
- B. Supplementary nutrition
- C. Non-formal pre-school education
- D. Supporting children in doing home-work after school

Choose the correct answer from the options given below:

- 1. B, C and D only
- 2. A, B and D only
- 3. A, B and C only
- 4. A, D and C only

**Options :**

- 485584146305. 1
- 485584146306. 2
- 485584146307. 3
- 485584146308. 4

**Question Number : 192 Question Id : 48558436577 Question Type : MCQ Option Shuffling : No Is Question Mandatory : No Calculator : None Response Time : N.A Think Time : N.A Minimum Instruction Time : 0**

**Correct Marks : 5 Wrong Marks : 1**

**Question Key Details :**

| Key           | Value |
|---------------|-------|
| Comprehension | Comp1 |

अंगणवाडी केंद्र या मुख्यतः सर्वसाधारण जनतेला उपलब्ध असलेल्या सुविदा पैकी एक 1975 साली पांची सुरुवात झाली, ज्यामुळे खार्चजनिक आरोग्य, लसीकरण आणि आरोग्य तपासणी असे कार्यक्रमांना बळ मिळले व नंतर लहान मुलांना पोषक आईहा, शिक्षण णि काळजी हे ही पांनी पोहचविले तरीही अंगणवाडीतील कमतरता आणि दुर्मिळ उर्जेची सेवा पाची नोंद झालेली आहे. आज 51% दारिद्रय रेषेखालील कुटुंबातील मुले अंगणवाडीत येतात, तर अधपिक्षा जास्त 20% घटकाम करण्यांची मुले खाजगी सोयींचा लाभ घेतात. अंगणवाडीचा असा दुर्मिळ आणि विषम वापरामुळे भारताचा मानवी मुख्यांक निर्देशांक क्रमवारी 174 देशांपैकी 116 वा 2020 मध्ये इतका होता आणि तसेच जागतिक भूकेचे निर्देशांकाने 107 देशांपैकी 98 ला 2020 मध्ये होता.

दोन मुलभूत तत्वे लहान मुलांच्या विकासाचे म्हणजे शिक्षण आणि आरोग्य, 0 ते 8 वयोगटातील लहान मुलांच्या सर्वांगीण शिक्षणाचा पाया असतो. त्यामुळे हा अतिशय म्हत्वाचा टप्पा आहे. त्यांच्या आयुष्याचा संशोधनाने असे कळले की मुख्य ज्ञानात्मक क्षमतेमुळे आमि विकसनसिलतेमुळे साक्षरता आणि ससंख्यता लहान वयातच मिळते ज्यामुळे उच्च शिक्षण साठी मदत होते. आज सामाजिक आणि धार्क साघ्यता समाजाला मिळते. या सारखेच मुलांना लहान वयातच निसर्ग जतन करण्याचे जोपासले. या बरोबर उत्तम आहार, आरोग्याची काळजी, जतन, लहान मुलांचे आरोग्य सुधारणे या सर्वांमुळे उत्तम फळ मिळणे शक्य होते.

अंगणवाडी संस्थेची कार्ये आहेत:

- लसीकरण करणे
- पोषणआहार पुरवणे
- अनौपचारिक शाळा
- शाळेनंतर शाळेचा गृहपाठ करण्यास मदत करणे

योग्य पर्याय निवडा

- B, C आणि D फक्त
- A, B आणि D फक्त
- A, B आणि C फक्त
- A, D आणि C फक्त

**Options :**

485584146305. 1
485584146306. 2
485584146307. 3
485584146308. 4

**Question Number : 193 Question Id : 48558436578 Question Type : MCQ Option Shuffling : No Is Question Mandatory : No Calculator : None Response Time : N.A Think Time : N.A Minimum Instruction Time : 0**

**Correct Marks : 5 Wrong Marks : 1**

**Question Key Details :**

| Key           | Value |
|---------------|-------|
| Comprehension | Comp1 |

**Read the passage carefully. Attempt Question**

Anganwadi Centers (AWCs) are the most common and publicly available facilities, initially constituted in 1975 to strengthen the public health system by providing immunization and health check-ups, and later to provide supplementary nutrition non-formal pre-school education and day-care.

The two key elements of early childhood development include education and health. A child's early years (0 to 8 years) form the foundation of all learning and are therefore the most extraordinary period of development in a child's life. Research has shown that greater cognitive abilities and being developmentally on track with literacy and numeracy in childhood provide for better learning in school and higher educational attainment, leading to major social and economic gains for society in the long run. Similarly, providing children with a nurturing environment in early years, with adequate nutrition, hygiene, protection and responsive stimulation, boosts healthy childhood development and delivers positive outcomes.

The two key elements of early childhood development are \_\_\_\_\_

- Nutrition and immunisation
- Health and education
- School readiness and health
- Day care and creche

**Options :**

485584146309. 1
485584146310. 2
485584146311. 3
485584146312. 4



Question Number : 193 Question Id : 48558436578 Question Type : MCQ Option Shuffling : No Is Question Mandatory : No Calculator : None Response Time : N.A Think Time : N.A Minimum Instruction Time : 0

Correct Marks : 5 Wrong Marks : 1

Question Key Details :

| Key           | Value |
|---------------|-------|
| Comprehension | Comp1 |

अंगणवाडी केंद्र या मुख्यतः सर्वसाधारण जनतेला उपलब्ध असलेल्या सुविदा पैकी एक 1975 साली पांची सुरुवात झाली, ज्यामुळे सार्वजनिक आरोग्य, लसीकरण आणि आरोग्य तपासणी असे कार्यक्रमांना बळ मिळले व नंतर लहान मुलांना पोषक आईहा, शिक्षण णि काळजी हे ही पांनी पोहचविले तरीही आंगणवाडीतील कमतरता आणि दुर्मिळ उर्जेची सेवा याची नोंद झालेली आहे. आज 51% दारिद्र्य रेषेखालील कुटुंबातील मुले अंगणवाडीत येतात, तर अर्धपेक्षा जास्त 20% घटकाम करण्याची मुले खाजगी सोयींचा लाभ घेतात. आंगणवाडीचा असा दुर्मिळ आणि विषम वापरामुळे भारताचा मानवी मुखांक निर्देशांक क्रमवारी 174 देशांपैकी 116 वा 2020 मध्ये इतका होता आणि तसेच जागतिक भूकेचे निर्देशांक 107 देशांपैकी 98 ला 2020 मध्ये होता.

दोन मुलभूत तत्वे लहान मुलांच्या विकासाचे म्हणजे शिक्षण आणि आरोग्य, 0 ते 5 वयोगटातील लहान मुलांच्या सर्वांगीण शिक्षणाचा पाया असतो. त्यामुळे हा अतिशय महत्वाचा टप्पा आहे. त्यांच्या आयुष्याचा, संशोधनाने असे कळले की मुख्य ज्ञानात्मक क्षमतेमुळे आमि विकसनसिलतेमुळे साक्षरता आणि ससंख्यता लहान वयातच मिळते ज्यामुळे उच्च शिक्षण साठी मदत होते, आणि सामाजिक आणि र्थिक साध्यता समाजाला मिळते. या सारखेच मुलांना लहान वयातच निसर्ग जतन करण्याचे जोपासले, या बरोबर उत्तम आहार, आरोग्याची काळजी, जतन, लहान मुलांचे आरोग्य सुधारणे या सर्वामुळे उत्तम फळ मिळणे शक्य होते.

लहान मुलांच्या प्रारंभिक विकासाचे दोन प्रमुख घटक म्हणजे.

1. पोषण आणि लसीकरण
2. आरोग्य आणि शिक्षण
3. शाळेची तयारी आणि आरोग्य
4. पाळणाघर आणि शिशुगृह

Options :

485584146309. 1  
485584146310. 2  
485584146311. 3  
485584146312. 4

Question Number : 194 Question Id : 48558436579 Question Type : MCQ Option Shuffling : No Is Question Mandatory : No Calculator : None Response Time : N.A Think Time : N.A Minimum Instruction Time : 0

Correct Marks : 5 Wrong Marks : 1

Question Key Details :

| Key           | Value |
|---------------|-------|
| Comprehension | Comp1 |

**Read the passage carefully. Attempt Question**

Anganwadi Centers (AWCs) are the most common and publicly available facilities, initially constituted in 1975 to strengthen the public health system by providing immunization and health check-ups, and later to provide supplementary nutrition non-formal pre-school education and day-care.

The two key elements of early childhood development include education and health. A child's early years (0 to 8 years) form the foundation of all learning and are therefore the most extraordinary period of development in a child's life. Research has shown that greater cognitive abilities and being developmentally on track with literacy and numeracy in childhood provide for better learning in school and higher educational attainment, leading to major social and economic gains for society in the long run. Similarly, providing children with a nurturing environment in early years, with adequate nutrition, hygiene, protection and responsive stimulation, boosts healthy childhood development and delivers positive outcomes.

The period of laying the foundation of all learning and rapid development during early childhood development is \_\_\_\_\_

1. 3 to 6 years
2. 0 to 8 years
3. 1 to 2 years
4. 0 to 2 years

**Options :**

485584146313. 1
485584146314. 2
485584146315. 3
485584146316. 4

**Question Number : 194 Question Id : 48558436579 Question Type : MCQ Option Shuffling : No Is Question Mandatory : No Calculator : None Response Time : N.A Think Time : N.A Minimum Instruction Time : 0**

**Correct Marks : 5 Wrong Marks : 1**

**Question Key Details :**

| Key           | Value |
|---------------|-------|
| Comprehension | Comp1 |

अंगणवाडी केंद्र या मुख्यतः सर्वसाधारण जनतेला उपलब्ध असलेल्या सुविदा पैकी एक 1975 साली पांची सुरुवात झाली, ज्यामुळे सार्वजनिक आरोग्य, लसीकरण आणि आरोग्य तपासणी असे कार्यक्रमांना बळ मिळले व नंतर लहान मुलांना पोषक आईहा, शिक्षण णि काळजी हे ही पांनी पोहचविले तरीही अंगणवाडीतील कमतरता आणि दुर्मिळ उर्जेची सेवा याची नोंद झालेली आहे. आज 51% दारिद्र्य रेषेखालील कुटुंबातील मुले अंगणवाडीत येतात, तर अर्धपेक्षा जास्त 20% घटकाम करण्यांची मुले खाजगी सोयींचा लाभ घेतात. अंगणवाडीचा असा दुर्मिळ आणि विषम वापरामुळे भारताचा मानवी मुख्यांक निर्देशांक क्रमवारी 174 देशांपैकी 116 वा 2020 मध्ये इतका होता आणि तसेच जागतिक भूकेचे निर्देशांकात 107 देशांपैकी 98 ला 2020 मध्ये होता.

दोन मुलभूत तत्वे लहान मुलांच्या विकासाचे म्हणजे शिक्षण आणि आरोग्य, 0 ते 8 वयोगटातील लहान मुलांच्या सर्वांगीण शिक्षणाचा पाया असतो. त्यामुळे हा अतिशय म्हत्वाचा टप्पा आहे. त्यांच्या आयुष्याचा संशोधनाने असे कळले की मुख्य ज्ञानात्मक क्षमतेमुळे आणि विकसनसिलतेमुळे साक्षरता आणि ससंख्यता लहान वयातच मिळते ज्यामुळे उच्च शिक्षण साठी मदत होते. आणि सामाजिक आणि तिर्थक साघ्यता समाजाला मिळते. या सारखेच मुलांना लहान वयातच निसर्ग जतन करण्याचे जोपासले, या बरोबर उत्तम आहार, आरोग्याची काळजी, जतन, लहान मुलांचे आरोग्य सुधारणे या सर्वामुळे उत्तम फळ मिळणे शक्य होते.

वर्ष हा लहान मुलांच्या प्रारंभिक विकासाचा कालावधी असतो.

1. 3 ते 6 वर्षे
2. 0 ते 8 वर्षे
3. 1 ते 2 वर्षे
4. 0 ते 2 वर्षे

**Options :**

485584146313. 1
485584146314. 2
485584146315. 3
485584146316. 4

**Question Number : 195 Question Id : 48558436580 Question Type : MCQ Option Shuffling : No Is Question Mandatory : No Calculator : None Response Time : N.A Think Time : N.A Minimum Instruction Time : 0**

**Correct Marks : 5 Wrong Marks : 1**

**Question Key Details :**

| Key           | Value |
|---------------|-------|
| Comprehension | Comp1 |

**Read the passage carefully. Attempt Question**

Anganwadi Centers (AWCs) are the most common and publicly available facilities, initially constituted in 1975 to strengthen the public health system by providing immunization and health check-ups, and later to provide supplementary nutrition non-formal pre-school education and day-care.

The two key elements of early childhood development include education and health. A child's early years (0 to 8 years) form the foundation of all learning and are therefore the most extraordinary period of development in a child's life. Research has shown that greater cognitive abilities and being developmentally on track with literacy and numeracy in childhood provide for better learning in school and higher educational attainment, leading to major social and economic gains for society in the long run. Similarly, providing children with a nurturing environment in early years, with adequate nutrition, hygiene, protection and responsive stimulation, boosts healthy childhood development and delivers positive outcomes.

To boost healthy childhood and getting positive outcomes in ECCE, which of the following needs to be provided?

- A. Adequate nutrition
- B. Responsive stimulation
- C. Hygiene
- D. Toys and games
- E. Immunisation

Choose the correct answer from the options given below:

1. A, B and C only
2. A, B and D only
3. B, C and D only
4. C, D and E only

**Options :**

485584146317. 1
485584146318. 2
485584146319. 3

Question Number : 195 Question Id : 48558436580 Question Type : MCQ Option Shuffling : No Is Question Mandatory : No Calculator : None Response Time : N.A Think Time : N.A Minimum Instruction Time : 0  
Correct Marks : 5 Wrong Marks : 1

Question Key Details :

| Key           | Value |
|---------------|-------|
| Comprehension | Comp1 |

अंगणवाडी केंद्र या मुख्यतः सर्वसाधारण जनतेला उपलब्ध असलेल्या सुविदा पैकी एक 1975 साली पांची सुरुवात झाली, ज्यामुळे सार्वजनिक आरोग्य, लसीकरण आणि आरोग्य तपासणी असे कार्यक्रमांना बळ मिळले व नंतर लहान मुलांना पोषक आईहा, शिक्षण णि काळजी हे ही पांनी पोहचविले तरीही अंगणवाडीतील कमतरता आणि दुर्मिळ उर्जेची सेवा राची नोंद झालेली आहे. आज 51% दारिद्रय रेषेखालील कुटुंबातील मुले अंगणवाडीत येतात, तर अधपिक्षा जास्त 20% घटकाम करणांची मुले खाजगी सोयींचा लाभ घेतात. अंगणवाडीचा असा दुर्मिळ आणि विषम वापरामुळे भारताचा मानवी मुखांक निर्देशांक क्रमवारी 174 देशांपैकी 116 वा 2020 मध्ये इतका होता आणि तसेच जागतिक भूकेचे निर्देशांकात 107 देशांपैकी 98 ला 2020 मध्ये होता.

दोन मुलभूत तत्वे लहान मुलांच्या विकासाचे म्हणजे शिक्षण आणि आरोग्य, 0 ते 8 वयोगटातील लहान मुलांच्या सर्वांगीण शिक्षणाचा पाया असतो. त्यामुळे हा अतिशय म्हत्वाचा टप्पा आहे. त्यांच्या आयुष्याचा संशोधनाने असे कळले की मुख्य ज्ञानात्मक क्षमतेमुळे आणि विकसनसिलतेमुळे साक्षरता आणि ससंख्यता लहान वयातच मिळते ज्यामुळे उच्च शिक्षण साठी मदत होते. आणि सामाजिक आणि ठिथिक साध्यता समाजाला मिळते. या सारखेच मुलांना लहान वयातच निसर्ग जतन करणाचे जोपासले. या बरोबर उत्तम आहार, आरोग्याची काळजी, जतन, लहान मुलांचे आरोग्य सुधारणे या सर्वांमुळे उत्तम फळ मिळणे शक्य होते.

ECCE मधून सकारात्मक परिणाम मिळविण्यासाठी खालील गोष्टींची काळजी घ्यावी लागते

- पुरेसा आहार
- प्रतिसादाची उत्तेजना
- शारीरिक स्वच्छता
- खेळ व खेळणी पुरविणे
- लसीकरण पुरविणे

योग्य पर्याय निवडा

- A, B आणि C फक्त
- A, B आणि D फक्त
- B, C आणि D फक्त
- C, D आणि E आणि

Options :

485584146317. 1
485584146318. 2
485584146319. 3
485584146320. 4

Sub-Section Number :

3

Sub-Section Id :

4855842701

Question Shuffling Allowed :

No

Is Section Default? :

null

Question Number : 196 Question Id : 48558436581 Question Type : MCQ Option Shuffling : No Is Question Mandatory : No Calculator : None Response Time : N.A Think Time : N.A Minimum Instruction Time : 0  
Correct Marks : 5 Wrong Marks : 1

Question Key Details :

| Key | Value |
|-----|-------|
|-----|-------|

**Read the passage carefully. Attempt Question**

Consumers not only purchase products but a whole gamut of services like those of banks, other financial institutions, airlines and travel agencies; hospitals and other medical practitioners; public utilities like garbage collection, cleanliness and maintenance of roads, parks, etc; electricity water telephone, post and telegraph; educational institutions and so on.

Consumers face a number of problems with regard to these services like excessive billing, being charged but not delivering the service, gap between promised level of service and service that is delivered, overstating the service attributes and enticing the consumer, making false claims and so on.

Gap between service delivery and external communication is a consumer issue. Consumer expectations are affected by promises made by the service provider in his external communication which may be through brochures, advertisements, personal selling etc. E.g. If a resort hotel brochure shows a beautiful room but the guests arrive and find the room to be cheap and very ordinary. Many a times people make advance bookings based on the brochures or seeing the website or some other advertisements. In such bookings sometimes advance also has to be paid. If the customer does not like the room ambience he may be left with little choice since refunds are not given by many hotels.

Many private educational institutions assure jobs to students after completion of course which eventually does not happen. Which service-related consumer problem is depicted in this example ?

1. Excessive billings
2. Being charged but not delivering the service
3. Making false claims
4. Overstating the service attributes

**Options :**

485584146321. 1  
485584146322. 2  
485584146323. 3  
485584146324. 4

**Question Number : 196 Question Id : 48558436581 Question Type : MCQ Option Shuffling : No Is Question Mandatory : No Calculator : None Response Time : N.A Think Time : N.A Minimum Instruction Time : 0**

**Correct Marks : 5 Wrong Marks : 1**

**Question Key Details :**

| Key           | Value |
|---------------|-------|
| Comprehension | Comp2 |

ग्राहक फक्त वस्तू विकत घेत नाहीत तर विभिन्न प्रकारच्या सेवा पण होते जसे की बँक, पतपेठ्या विमानसेवा, आणि इतर वाहतूक सेवा, दवाखाने औषधीपचार, नागरी सेवा जसे कचरा एकत्रीकरण, स्वच्छता आणि रस्तांचा सांबाळ, बागेचा सांभाळ वेगळे, वीज, पाणी दुरसंचार टपाल आणि पत्र, शैक्षणिक संस्था आणि बरेच काही.

ग्राहक या सेवेबाबत अनेक तक्रारींना समोर जातात जसे अतिरिक्त देयक रक्कम, सेवा न पुरविता देयक रक्कम मागणे, सेवा पुरविण्यात आणि सेवा देण्यात सांगणे यांत तफावत, सेवेबद्दल श्रेय घेणे आणि ग्राहकाला भुरळ पाडणे, फसवणूक करणे आणि असे बरेच काही. सेवेची पोच आणि बाह्यसंपर्क यांत तफावत हा ग्राहकांचा प्रश्न आहे. ग्राहकांच्या अपेक्षा ह्या सेवा पुरविण्याच्या बाह्यसंपर्क जसे माहितीपत्र, जाहिराती, व्यैयक्तिक बाह्यसंपर्क जसे माहितीपत्र, जाहिराती, वैयक्तिक विक्री वेगळे पांवर अवलंबून असतात. उदा. जर एका आरामगृहाचे माहिती पुस्तकेत तेथील रुमचे वर्णन खुप छान केलेले असते पण प्रत्यक्षात आपण तेथे गेल्यावर खोल्या खुप साधारण आणि स्वस्त असतात, खुप वेळा लोक आपले आरक्षण माहितीपुस्तिका किंवा वेबसाईट वर बघून करतात, अशा आरक्षणावेली बऱ्याच वेळा काही पैसे दिले जातात, पण ग्राहकांकडे अशा वेळेस खुप कमी पर्याय असतात कारण बऱ्याच वेळा आरामगृह पैसे देत नाही.

खुपशा खाजगी शैक्षणिक संस्था विद्यार्थ्यांना नोकरीचे आश्वासन देतात. त्यांचे शिक्षण पूर्ण झाल्यावर पण आश्वासन होत नाही. यात ग्राहक नोकरी संदर्भात कोणते उदाहरण सांगितले आहे?

1. अतिरिक्त देयक रक्कम
2. सेवा न पुरविता देयक रक्कम लावणे
3. फसवणुकीचा दावा
4. नोकरीबद्दल श्रेय घेणे

**Options :**

485584146321. 1  
485584146322. 2  
485584146323. 3  
485584146324. 4

**Question Number : 197 Question Id : 48558436582 Question Type : MCQ Option Shuffling : No Is Question Mandatory : No Calculator : None Response Time : N.A Think Time : N.A Minimum Instruction Time : 0**

**Correct Marks : 5 Wrong Marks : 1**

**Question Key Details :**

| Key           | Value |
|---------------|-------|
| Comprehension | Comp2 |

**Read the passage carefully. Attempt Question**

Consumers not only purchase products but a whole gamut of services like those of banks, other financial institutions, airlines and travel agencies; hospitals and other medical practitioners; public utilities like garbage collection, cleanliness and maintenance of roads, parks, etc; electricity water telephone, post and telegraph; educational institutions and so on.

Consumers face a number of problems with regard to these services like excessive billing, being charged but not delivering the service, gap between promised level of service and service that is delivered, overstating the service attributes and enticing the consumer, making false claims and so on.

Gap between service delivery and external communication is a consumer issue. Consumer expectations are affected by promises made by the service provider in his external communication which may be through brochures, advertisements, personal selling etc. E.g. If a resort hotel brochure shows a beautiful room but the guests arrive and find the room to be cheap and very ordinary. Many a times people make advance bookings based on the brochures or seeing the website or some other advertisements. In such bookings sometimes advance also has to be paid. If the customer does not like the room ambience he may be left with little choice since refunds are not given by many hotels.

Which of the following is NOT an example of services offered to consumers ?

1. Consumer durables
2. Banking services
3. Airlines
4. Educational institutions

**Options :**

485584146325. 1  
485584146326. 2  
485584146327. 3  
485584146328. 4

Question Number : 197 Question Id : 48558436582 Question Type : MCQ Option Shuffling : No Is Question Mandatory : No Calculator : None Response Time : N.A Think Time : N.A Minimum Instruction Time : 0

Correct Marks : 5 Wrong Marks : 1

Question Key Details :

| Key           | Value |
|---------------|-------|
| Comprehension | Comp2 |

ग्राहक फक्त वस्तु विकत घेत नाहीत तरे विभिन्न प्रकारच्या सेवा पण होते जसे की बँक, पतपेठ्या विमानसेवा, आणि इतर वाहतूक सेवा, दवाखाने औषधीपचार, नागरी सेवा जसे कचरा एकत्रीकरण, स्वच्छता आणि रस्तांचा सांबाळ, बागेचा सांभाळ वेगळे, वीज, पाणी दुरसंचार टपाल आणि पत्र, शैक्षणिक संस्था आणि बरेच काही.

ग्राहक या सेवेबाबत अनेक तक्रारीना समोरे जातात जसे अतिरिक्त देयक रक्कम, सेवा न पुरविता देयक रक्कम मागणे, सेवा पुरविण्यात आणि सेवा देण्यात सागणे यांत तफावत, सेवेबद्दल श्रेय घेणे आणि ग्राहकाला भुरळ पाडणे, फसवणूक करणे आणि असे बरेच काही. सेवेची पोच आणि बाह्यसंपर्क यांत तफावत हा ग्राहकांचा प्रश्न आहे. ग्राहकांच्या अपेक्षा ह्या सेवा पुरविण्याच्या बाह्यसंपर्क जसे माहितीपत्र, जाहिराती, व्यैयक्तिक बाह्यसंपर्क जसे माहितीपत्र, जाहिराती, वैयक्तिक विक्री वेगळे पांवर अवलंबून असतात. उदा. जर एका आरामगृहाचे माहिती पुस्तकेत तेथील रुमचे वर्णन खुप छान केलेले असते पण प्रत्यक्षात आपण तेथे गेल्यावर खोलया खुप साधारण आणि स्वस्त असतात, खुप वेळा लोक आपले आरक्षण माहितीपुस्तिका किंवा व्हेबसाईट वर बघून करतात. अशा आरक्षणावेळी बऱ्याच वेळा काही पैसे दिले जातात, पण ग्राहकांकडे अशा वेळेस खुप कमी पर्याय असतात कारण बऱ्याच वेळा आरामगृह पैसे देत नाही.

खालीलपैकी कोणती ग्राहकाला नोकरी पुरविण्याचे उदाहरणे आहेत?

- A. बँकिंग सेवा
- B. ग्राहकोपयोग वस्तु
- C. विमान वाहतूक
- D. शैक्षणिक संस्था
- E. वापरात असलेल्या वस्तु

योग्य पर्याय निवडा

- 1. A, C आणि D फक्त
- 2. B, C आणि D फक्त
- 3. B, D आणि E फक्त
- 4. A, B आणि C फक्त

Options :

- 485584146325. 1
- 485584146326. 2
- 485584146327. 3
- 485584146328. 4

Question Number : 198 Question Id : 48558436583 Question Type : MCQ Option Shuffling : No Is Question Mandatory : No Calculator : None Response Time : N.A Think Time : N.A Minimum Instruction Time : 0

Correct Marks : 5 Wrong Marks : 1

Question Key Details :

| Key           | Value |
|---------------|-------|
| Comprehension | Comp2 |

**Read the passage carefully. Attempt Question**

Consumers not only purchase products but a whole gamut of services like those of banks, other financial institutions, airlines and travel agencies; hospitals and other medical practitioners; public utilities like garbage collection, cleanliness and maintenance of roads, parks, etc; electricity water telephone, post and telegraph; educational institutions and so on.

Consumers face a number of problems with regard to these services like excessive billing, being charged but not delivering the service, gap between promised level of service and service that is delivered, overstating the service attributes and enticing the consumer, making false claims and so on.

Gap between service delivery and external communication is a consumer issue. Consumer expectations are affected by promises made by the service provider in his external communication which may be through brochures, advertisements, personal selling etc. E.g. If a resort hotel brochure shows a beautiful room but the guests arrive and find the room to be cheap and very ordinary. Many a times people make advance bookings based on the brochures or seeing the website or some other advertisements. In such bookings sometimes advance also has to be paid. If the customer does not like the room ambience he may be left with little choice since refunds are not given by many hotels.

Many a times, we are required to pay a basic telephone rental charge irrespective of it being out of order. Which service related to consumer problem is depicted in this example?

1. Excessive billing
2. Being charged but not delivering the service
3. Making false claims
4. Overstating the service attributes

**Options :**

485584146329. 1  
485584146330. 2  
485584146331. 3  
485584146332. 4

**Question Number : 198 Question Id : 48558436583 Question Type : MCQ Option Shuffling : No Is Question Mandatory : No Calculator : None Response Time : N.A Think Time : N.A Minimum Instruction Time : 0**

**Correct Marks : 5 Wrong Marks : 1**

**Question Key Details :**

| Key           | Value |
|---------------|-------|
| Comprehension | Comp2 |

ग्राहक फक्त वस्तू विकत घेत नाहीत तर विभिन्न प्रकारच्या सेवा पण होते जसे की बँक, पतपेठ्या विमानसेवा, आणि इतर वाहतूक सेवा, दवाखाने औषधीपचार, नागरी सेवा जसे कचरा एकत्रीरण, स्वच्छता आणि रस्तांचा सांबाळ, बागेचा सांभाळ वेगळे, वीज, पाणी दुरसंचार टपाल आणि पत्र, शैक्षणिक संस्था आणि बरेच काही.

ग्राहक या सेवेबाबत अनेक तक्रारींना समोरे जातात जसे अतिरिक्त देयक रक्कम, सेवा न पुरविता देयक रक्कम मागणे, सेवा पुरविण्यात आणि सेवा देण्यात सांगणे यांत तफावत, सेवेबद्दल श्रेय घेणे आणि ग्राहकाला भूळ पाडणे, फसवणूक करणे आणि असे बरेच काही. सेवेची पोच आणि बाह्यसंपर्क यांत तफावत हा ग्राहकांचा प्रश्न आहे. ग्राहकांच्या अपेक्षा ह्या सेवा पुरविण्याच्या बाह्यसंपर्क जसे माहितीपत्र, जाहिराती, व्यैयक्तिक बाह्यसंपर्क जसे माहितीपत्र, जाहिराती, वैयक्तिक विक्री वेगळे पांवर अवलंबून असतात. उदा. जर एका आरामगृहाचे माहिती पुस्तकेत तेथील रुमचे वर्णन खुप छान केलेले असते पण प्रत्यक्षात आपण तेथे गेल्यावर खोल्या खुप साधारण आणि स्वस्त असतात, खुप वेळा लोक आपले आरक्षण माहितीपुस्तिका किंवा व्हेबसाईट वर बघून करतात. अशा आरक्षणावेळी बऱ्याच वेळा काही पैसे दिले जातात, पण ग्राहकांकडे अशा वेळेस खुप कमी पर्याय असतात कारण बऱ्याच वेळा आरामगृह पैसे देत नाही.



बऱ्याच वेळा आपणास फोनचा मूलभूत भाडे खर्च द्यावा लागतो, जरी तो फोन काम करत नसेल. हे कोणत्या ग्राहक तक्रार सेवेचे उदाहरण आहे?

1. अतिरिक्त देयक रक्कम
2. सेवा न पुरविता देयक रक्कम आकारणे
3. फसवणुकीचा दावा
4. सेवेबद्दल श्रेय घेणे

**Options :**

485584146329. 1  
485584146330. 2  
485584146331. 3  
485584146332. 4

**Question Number : 199 Question Id : 48558436584 Question Type : MCQ Option Shuffling : No Is Question Mandatory : No Calculator : None Response Time : N.A Think Time : N.A Minimum Instruction Time : 0**

**Correct Marks : 5 Wrong Marks : 1**

**Question Key Details :**

| Key           | Value |
|---------------|-------|
| Comprehension | Comp2 |

**Read the passage carefully. Attempt Question**

Consumers not only purchase products but a whole gamut of services like those of banks, other financial institutions, airlines and travel agencies; hospitals and other medical practitioners; public utilities like garbage collection, cleanliness and maintenance of roads, parks, etc; electricity water telephone, post and telegraph; educational institutions and so on.

Consumers face a number of problems with regard to these services like excessive billing, being charged but not delivering the service, gap between promised level of service and service that is delivered, overstating the service attributes and enticing the consumer, making false claims and so on.

Gap between service delivery and external communication is a consumer issue. Consumer expectations are affected by promises made by the service provider in his external communication which may be through brochures, advertisements, personal selling etc. E.g. If a resort hotel brochure shows a beautiful room but the guests arrive and find the room to be cheap and very ordinary. Many a times people make advance bookings based on the brochures or seeing the website or some other advertisements. In such bookings sometimes advance also has to be paid. If the customer does not like the room ambience he may be left with little choice since refunds are not given by many hotels.

Which of the following is NOT an example of aid used by service providers for external communication ?

1. Brochures
2. Board meeting
3. Advertisements
4. Personal selling

**Options :**

485584146333. 1  
485584146334. 2  
485584146335. 3  
485584146336. 4

Question Number : 199 Question Id : 48558436584 Question Type : MCQ Option Shuffling : No Is Question Mandatory : No Calculator : None Response Time : N.A Think Time : N.A Minimum Instruction Time : 0

Correct Marks : 5 Wrong Marks : 1

Question Key Details :

| Key           | Value |
|---------------|-------|
| Comprehension | Comp2 |

ग्राहक फक्त वस्तु विकत घेत नाहीत तरे विभिन्न प्रकारच्या सेवा पण होते जसे की बँक, पतपेठ्या विमानसेवा, आणि इतर वाहतूक सेवा, दवाखाने औषधोपचार, नागरी सेवा जसे कचरा एकत्रीकरण, स्वच्छता आणि रस्तांचा सांबाळ, बागेचा सांभाळ वेगळे, वीज, पाणी दुरसंचार टपाल आणि पत्र, शैक्षणिक संस्था आणि बरेच काही.

ग्राहक या सेवेबाबत अनेक तक्रारीना समोरे जातात जसे अतिरिक्त देयक रक्कम, सेवा न पुरविता देयक रक्कम मागणे, सेवा पुरविण्यात आणि सेवा देण्यात सागणे यांत तफावत, सेवेबद्दल श्रेय घेणे आणि ग्राहकाला भुरळ पाडणे, फसवणूक करणे आणि असे बरेच काही. सेवेची पोच आणि बाह्यसंपर्क यांत तफावत हा ग्राहकांचा प्रश्न आहे. ग्राहकांच्या अपेक्षा ह्या सेवा पुरविण्याच्या बाह्यसंपर्क जसे माहितीपत्र, जाहिराती, व्यैयक्तिक बाह्यसंपर्क जसे माहितीपत्र, जाहिराती, वैयक्तिक विक्री वेगळे पांवर अवलंबून असतात. उदा. जर एका आरामगृहाचे माहिती पुस्तकेत तेथील रुमचे वर्णन खुप छान केलेले असते पण प्रत्यक्षात आपण तेथे गेल्यावर खोलया खुप साधारण आणि स्वस्त असतात, खुप वेळा लोक आपले आरक्षण माहितीपुस्तिका किंवा वेबसाईट वर बघून करतात. अशा आरक्षणावेळी बऱ्याच वेळा काही पैसे दिले जातात, पण ग्राहकांकडे अशा वेळेस खुप कमी पर्याय असतात कारण बऱ्याच वेळा आरामगृह पैसे देत नाही.

बाह्य संपर्कासाठी खालीलपैकी कोणती सेवा मदत म्हणून वापरली जाते?

- A. संचालक मंडळाची
- B. माहिती पुस्तिका
- C. जाहिराती
- D. व्यैयक्तिक विक्री
- E. सूट देणे

योग्य पर्याय निवडा

- 1. A, C आणि D फक्त
- 2. B, C आणि D फक्त
- 3. B, D आणि E फक्त
- 4. A, B आणि C फक्त

Options :

- 485584146333. 1
- 485584146334. 2
- 485584146335. 3
- 485584146336. 4

Question Number : 200 Question Id : 48558436585 Question Type : MCQ Option Shuffling : No Is Question Mandatory : No Calculator : None Response Time : N.A Think Time : N.A Minimum Instruction Time : 0

Correct Marks : 5 Wrong Marks : 1

Question Key Details :

| Key           | Value |
|---------------|-------|
| Comprehension | Comp2 |

**Read the passage carefully. Attempt Question**

Consumers not only purchase products but a whole gamut of services like those of banks, other financial institutions, airlines and travel agencies; hospitals and other medical practitioners; public utilities like garbage collection, cleanliness and maintenance of roads, parks, etc; electricity water telephone, post and telegraph; educational institutions and so on.

Consumers face a number of problems with regard to these services like excessive billing, being charged but not delivering the service, gap between promised level of service and service that is delivered, overstating the service attributes and enticing the consumer, making false claims and so on.

Gap between service delivery and external communication is a consumer issue. Consumer expectations are affected by promises made by the service provider in his external communication which may be through brochures, advertisements, personal selling etc. E.g. If a resort hotel brochure shows a beautiful room but the guests arrive and find the room to be cheap and very ordinary. Many a times people make advance bookings based on the brochures or seeing the website or some other advertisements. In such bookings sometimes advance also has to be paid. If the customer does not like the room ambience he may be left with little choice since refunds are not given by many hotels.

A family had gone on vacation for a month but received electricity bill for the same month running in several thousands. Which service related consumer problems is depicted in this case?

1. Excessive billing
2. Being charged but not delivering the service
3. Making false claims
4. Overstating the service attributes

**Options :**

485584146337. 1  
485584146338. 2  
485584146339. 3  
485584146340. 4

**Question Number : 200 Question Id : 48558436585 Question Type : MCQ Option Shuffling : No Is Question Mandatory : No Calculator : None Response Time : N.A Think Time : N.A Minimum Instruction Time : 0**

**Correct Marks : 5 Wrong Marks : 1**

**Question Key Details :**

| Key           | Value |
|---------------|-------|
| Comprehension | Comp2 |

ग्राहक फक्त वस्तू विकत घेत नाहीत तर विभिन्न प्रकारच्या सेवा पण होते जसे की बँक, पतपेठ्या विमानसेवा, आणि इतर वाहतूक सेवा, दवाखाने औषधीपचार, नागरी सेवा जसे कचरा एकत्रीकरण, स्वच्छता आणि रस्तांचा सांबाळ, बागेचा सांभाळ वेगळे, वीज, पाणी दुरसंचार टपाल आणि पत्र, शैक्षणिक संस्था आणि बरेच काही.

ग्राहक या सेवेबाबत अनेक तक्रारींना समोरे जातात जसे अतिरिक्त देयक रक्कम, सेवा न पुरविता देयक रक्कम मागणे, सेवा पुरविण्यात आणि सेवा देण्यात सांगणे यांत तफावत, सेवेबद्दल श्रेय घेणे आणि ग्राहकाला भूळ पाडणे, फसवणूक करणे आणि असे बरेच काही. सेवेची पोच आणि बाह्यसंपर्क यांत तफावत हा ग्राहकांचा प्रश्न आहे. ग्राहकांच्या अपेक्षा ह्या सेवा पुरविण्याच्या बाह्यसंपर्क जसे माहितीपत्र, जाहिराती, व्यैयक्तिक बाह्यसंपर्क जसे माहितीपत्र, जाहिराती, वैयक्तिक विक्री वेगळे पांवर अवलंबून असतात. उदा. जर एका आरामगृहाचे माहिती पुस्तकेत तेथील रुमचे वर्णन खुप छान केलेले असते पण प्रत्यक्षात आपण तेथे गेल्यावर खोल्या खुप साधारण आणि स्वस्त असतात, खुप वेळा लोक आपले आरक्षण माहितीपुस्तिका किंवा व्हेबसाईट वर बघून करतात. अशा आरक्षणावेळी बऱ्याच वेळा काही पैसे दिले जातात, पण ग्राहकांकडे अशा वेळेस खुप कमी पर्याय असतात कारण बऱ्याच वेळा आरामगृह पैसे देत नाही.

एक कुटुंब एका महिन्यासाठी सहलीला सुट्टीवर गेले असता त्यांना त्या महिन्याचे वीजेचे बील काही हजारांमध्ये आले. हे कोणत्या ग्राहक सेवेचे उदाहरण आहे?

1. अतिरिक्त देयक रक्कम
2. सेवा न पुरविता देयक रक्कम आकारणे
3. फसवणुकीचा दावा
4. सेवेबद्दल श्रेय घेणे

**Options :**

485584146337. 1  
485584146338. 2  
485584146339. 3  
485584146340. 4

### Teaching Aptitude

|                               |           |
|-------------------------------|-----------|
| Group Number :                | 6         |
| Group Id :                    | 485584826 |
| Group Maximum Duration :      | 45        |
| Group Minimum Duration :      | 45        |
| Show Attended Group? :        | No        |
| Edit Attended Group? :        | No        |
| Break time :                  | 0         |
| Group Marks :                 | 200       |
| Is this Group for Examiner? : | No        |
| Examiner permission :         | Cant View |
| Show Progress Bar? :          | No        |

### Teaching Aptitude

|  |            |
|--|------------|
| Section Id :   | 485584950  |
| Section Number :   | 1          |
| Section type :   | Online     |
| Mandatory or Optional :                                      | Mandatory  |
| Number of Questions :  | 50         |
| Number of Questions to be attempted :                        | 40         |
| Section Marks :  | 200        |
| Enable Mark as Answered Mark for Review and Clear Response : | Yes        |
| Maximum Instruction Time :                                   | 0          |
| Sub-Section Number :   | 1          |
| Sub-Section Id :   | 4855842702 |
| Question Shuffling Allowed :                                 | Yes        |
| Is Section Default? :  | null       |

Question Number : 201 Question Id : 48558436586 Question Type : MCQ Option Shuffling : No Is Question Mandatory : No Calculator : None Response Time : N.A Think Time : N.A Minimum Instruction Time : 0  
Correct Marks : 5 Wrong Marks : 1

Question Key Details :

| Key           | Value |
|---------------|-------|
| Comprehension | MCQ   |

Match List I with List II

| LIST I<br>Dance |              | LIST II<br>Artists |                      |
|-----------------|--------------|--------------------|----------------------|
| A.              | Bharatnatyam | I.                 | Savita Mehta.        |
| B.              | Odissi       | II.                | Sitara Devi          |
| C.              | Kathak       | III.               | Yamini Krishnamurthy |
| D.              | Manipuri     | IV.                | Sanjukta Panigrahi   |

Choose the correct answer from the options given below:

1. A-III, B-IV, C-II, D-I
2. A-III, B-II, C-IV, D-I
3. A-II, B-IV, C-III, D-I
4. A-II, B-I, C-IV, D-III

Options :

485584146341. 1  
485584146342. 2  
485584146343. 3  
485584146344. 4

Question Number : 201 Question Id : 48558436586 Question Type : MCQ Option Shuffling : No Is Question Mandatory : No Calculator : None Response Time : N.A Think Time : N.A Minimum Instruction Time : 0

Correct Marks : 5 Wrong Marks : 1

Question Key Details :

| Key           | Value |
|---------------|-------|
| Comprehension | MCQ   |

यादी I व यादी II जुळवा.

| यादी I<br>नृत्यप्रकार |           | यादी II<br>कलाकार |                    |
|-----------------------|-----------|-------------------|--------------------|
| A.                    | भरतनाट्यम | I.                | सविता मेधा         |
| B.                    | ओडिसी     | II.               | सितारा देवी        |
| C.                    | कथक       | III.              | यामिनी कृष्णमूर्ती |
| D.                    | मणिपुरी   | IV.               | संजुक्ता पाणिग्रही |

खालील पर्यायातून योग्य उत्तर निवडा

1. A-III, B-IV, C-II, D-I
2. A-III, B-II, C-IV, D-I
3. A-II, B-IV, C-III, D-I
4. A-II, B-I, C-IV, D-III

Options :

485584146341. 1  
485584146342. 2  
485584146343. 3  
485584146344. 4

Question Number : 202 Question Id : 48558436587 Question Type : MCQ Option Shuffling : No Is Question Mandatory : No Calculator : None Response Time : N.A Think Time : N.A Minimum Instruction Time : 0

Correct Marks : 5 Wrong Marks : 1

Question Key Details :

| Key           | Value |
|---------------|-------|
| Comprehension | MCQ   |

DD Gyan Darshan is an educational media initiative of Ministry of Education in collaboration with-

- A. Ministry of Information and Broadcasting
- B. Prasar Bharti
- C. ISRO
- D. IGNOU
- E. Ministry of Information and Communication Technology

Choose the correct answer from the options given below:

- 1. A, B and C only
- 2. A, C and D only
- 3. A, B, C and D only
- 4. B, C and E only

**Options :**

- 485584146345. 1
- 485584146346. 2
- 485584146347. 3
- 485584146348. 4

**Question Number : 202 Question Id : 48558436587 Question Type : MCQ Option Shuffling : No Is Question Mandatory : No Calculator : None Response Time : N.A Think Time : N.A Minimum Instruction Time : 0**

**Correct Marks : 5 Wrong Marks : 1**

**Question Key Details :**

| Key           | Value |
|---------------|-------|
| Comprehension | MCQ   |

डीडी ज्ञानदर्शन हा शैक्षणिक उपक्रम शिक्षण मंत्रालयाने यांच्या सहकार्याने सुरू केला आहे -

- A. माहिती व प्रसारण मंत्रालय
- B. प्रसार भारती
- C. इस्रो (ISRO)
- D. इग्नू (IGNOU)
- E. माहिती व संपर्क तंत्रज्ञान मंत्रालय

खालील पर्यायातून योग्य उत्तर निवडा

- 1. A, B आणि C फक्त
- 2. A, C आणि D फक्त
- 3. A, B, C आणि D फक्त
- 4. B, C आणि E फक्त

**Options :**

- 485584146345. 1
- 485584146346. 2
- 485584146347. 3
- 485584146348. 4

**Question Number : 203 Question Id : 48558436588 Question Type : MCQ Option Shuffling : No Is Question Mandatory : No Calculator : None Response Time : N.A Think Time : N.A Minimum Instruction Time : 0**

**Correct Marks : 5 Wrong Marks : 1**

**Question Key Details :**

|               |              |
|---------------|--------------|
| <b>Key</b>    | <b>Value</b> |
| Comprehension | MCQ          |

Match List I with List II

| LIST I |         | LIST II |   |
|--------|---------|---------|---|
| A.     | Thappad | I.      | Women's bodies and commercial gains     |
| B.     | Mirni   | II.     | Quality education for all               |
| C.     | Black   | III.    | Domestic violence and dignity           |
| D.     | Hichki  | IV.     | Right to a dignified life and knowledge |

Choose the correct answer from the options given below:

1. A-III, B-I, C-IV, D-II
2. A-I, B-III, C-IV, D-II
3. A-III, B-I, C-II, D-IV
4. A-III, B-II, C-IV, D-I

**Options :**

485584146349. 1  
485584146350. 2  
485584146351. 3  
485584146352. 4

**Question Number : 203 Question Id : 48558436588 Question Type : MCQ Option Shuffling : No Is Question Mandatory : No Calculator : None Response Time : N.A Think Time : N.A Minimum Instruction Time : 0**

**Correct Marks : 5 Wrong Marks : 1****Question Key Details :**

|               |              |
|---------------|--------------|
| <b>Key</b>    | <b>Value</b> |
| Comprehension | MCQ          |

यादी I व यादी II जळवा.

| यादी I |       | यादी II |                                   |
|--------|-------|---------|-----------------------------------|
| A.     | थप्पड | I.      | स्त्री देह आणि व्यावसायिक लाभ     |
| B.     | मिमी  | II.     | सर्वासाठी गुणवत्तापूर्ण शिक्षण    |
| C.     | ब्लॅक | III.    | घरगुती हिंसाचार आणि सन्मान        |
| D.     | हिचकी | IV.     | सन्मानित आयुष्य आणि ज्ञानाचा हक्क |

खालील पर्यायातून योग्य पर्याय निवडा

1. A-III, B-I, C-IV, D-II
2. A-I, B-III, C-IV, D-II
3. A-III, B-I, C-II, D-IV
4. A-III, B-II, C-IV, D-I

**Options :**

485584146349. 1  
485584146350. 2  
485584146351. 3  
485584146352. 4

**Question Number : 204 Question Id : 48558436589 Question Type : MCQ Option Shuffling : No Is Question Mandatory : No Calculator : None Response Time : N.A Think Time : N.A Minimum Instruction Time : 0**

**Correct Marks : 5 Wrong Marks : 1**

**Question Key Details :**

| Key           | Value |
|---------------|-------|
| Comprehension | MCQ   |

In the story 'Idgah' the protagonist Hamid buys a \_\_\_\_\_ for \_\_\_\_\_ from the fair.

1. pair of tongs, his grandmother
2. pair of tongs, his mother
3. clay doll, himself
4. clay doll, his grandmother

**Options :**

485584146353. 1  
485584146354. 2  
485584146355. 3  
485584146356. 4

**Question Number : 204 Question Id : 48558436589 Question Type : MCQ Option Shuffling : No Is Question Mandatory : No Calculator : None Response Time : N.A Think Time : N.A Minimum Instruction Time : 0**

**Correct Marks : 5 Wrong Marks : 1**

**Question Key Details :**

| Key           | Value |
|---------------|-------|
| Comprehension | MCQ   |

इदगाह या कथेतील मुख्य पात्र हमीद जत्रेतून \_\_\_\_\_ साठी \_\_\_\_\_ आणतो.

1. आजी, चिमटा
2. आई, चिमटा
3. स्वतः, मातीची बाहुली
4. आजी, मातीची बाहुली

**Options :**

485584146353. 1  
485584146354. 2  
485584146355. 3  
485584146356. 4

**Question Number : 205 Question Id : 48558436590 Question Type : MCQ Option Shuffling : No Is Question Mandatory : No Calculator : None Response Time : N.A Think Time : N.A Minimum Instruction Time : 0**

**Correct Marks : 5 Wrong Marks : 1**

**Question Key Details :**

| Key           | Value |
|---------------|-------|
| Comprehension | MCQ   |

Who is the first female Indian scientist to receive a PhD degree in a scientific discipline?

1. Kamala Sohonie
2. Janaki Ammal
3. Anandibai Gopalrao Joshi
4. Asima Chatterjee

**Options :**



485584146357. 1  
485584146358. 2  
485584146359. 3  
485584146360. 4

**Question Number : 205 Question Id : 48558436590 Question Type : MCQ Option Shuffling : No Is Question Mandatory : No Calculator : None Response Time : N.A Think Time : N.A Minimum Instruction Time : 0**

**Correct Marks : 5 Wrong Marks : 1**

**Question Key Details :**

| Key           | Value |
|---------------|-------|
| Comprehension | MCQ   |

शास्त्रशास्त्रेतील पहिली Ph. D (विद्यावाचस्पती) मिळवणाऱ्या महिला शास्त्रज्ञ कोण?

1. कमला सोहोनी
2. जानकी अम्मल
3. आनंदीबाई गोपाळराव जोशी
4. असीमा चटर्जी

**Options :**

485584146357. 1  
485584146358. 2  
485584146359. 3  
485584146360. 4

**Question Number : 206 Question Id : 48558436591 Question Type : MCQ Option Shuffling : No Is Question Mandatory : No Calculator : None Response Time : N.A Think Time : N.A Minimum Instruction Time : 0**

**Correct Marks : 5 Wrong Marks : 1**

**Question Key Details :**

| Key           | Value |
|---------------|-------|
| Comprehension | MCQ   |

In the film, 'Chak De India', which of the following themes was not addressed?

1. National integration
2. Child labour
3. Women Empowerment
4. Religious Harmony

**Options :**

485584146361. 1  
485584146362. 2  
485584146363. 3  
485584146364. 4

**Question Number : 206 Question Id : 48558436591 Question Type : MCQ Option Shuffling : No Is Question Mandatory : No Calculator : None Response Time : N.A Think Time : N.A Minimum Instruction Time : 0**

**Correct Marks : 5 Wrong Marks : 1**

**Question Key Details :**

| Key           | Value |
|---------------|-------|
| Comprehension | MCQ   |

चक्र दे इडिया या चित्रपटात खालीलपैकी कोणते विषय समाविष्ट नाहीत?

1. राष्ट्रीय एकात्मता
2. बाल-कामगार
3. महिला सक्षमीकरण
4. धार्मिक एकात्मता

**Options :**

485584146361. 1  
485584146362. 2  
485584146363. 3  
485584146364. 4

**Question Number : 207 Question Id : 48558436592 Question Type : MCQ Option Shuffling : No Is Question Mandatory : No Calculator : None Response Time : N.A Think Time : N.A Minimum Instruction Time : 0**

**Correct Marks : 5 Wrong Marks : 1**

**Question Key Details :**

| Key           | Value |
|---------------|-------|
| Comprehension | MCQ   |

The stories by Premchand primarily deal with:

- A. Challenges faced by children
- B. issues related to women
- C. struggles of the professional class
- D. struggles of the rural poor
- E. the character of villages in medieval India

Choose the most appropriate answer from the options given below:

1. B, C and E only
2. D, A and E only
3. C, D and A only
4. A, B and D only

**Options :**

485584146365. 1  
485584146366. 2  
485584146367. 3  
485584146368. 4

**Question Number : 207 Question Id : 48558436592 Question Type : MCQ Option Shuffling : No Is Question Mandatory : No Calculator : None Response Time : N.A Think Time : N.A Minimum Instruction Time : 0**

**Correct Marks : 5 Wrong Marks : 1**

**Question Key Details :**

| Key           | Value |
|---------------|-------|
| Comprehension | MCQ   |

प्रेमचंदांच्या कथा प्रामुख्याने या विषयांशी निगडीत आहेत -

- A. विद्यार्थ्यांना सामोरे जावी लागणारी आव्हाने
- B. स्त्रियांशी निगडीत प्रश्न
- C. व्यावसायिक वर्गाचा संघर्ष
- D. खेळातील गरीबांचा संघर्ष
- E. मध्ययुगीन भारतातील खेळांचे स्वरूप

खालील पर्यायातून योग्य उत्तर निवडा

- 1. B, C आणि E फक्त
- 2. D, A आणि E फक्त
- 3. C, D आणि A फक्त
- 4. A, B आणि D फक्त

**Options :**

- 485584146365. 1
- 485584146366. 2
- 485584146367. 3
- 485584146368. 4

**Question Number : 208 Question Id : 48558436593 Question Type : MCQ Option Shuffling : No Is Question Mandatory : No Calculator : None Response Time : N.A Think Time : N.A Minimum Instruction Time : 0**

**Correct Marks : 5 Wrong Marks : 1**

**Question Key Details :**

| Key           | Value |
|---------------|-------|
| Comprehension | MCQ   |

The central theme of the Hindi film, 'Dangal' is:

- 1. Urban-rural social divide in the state of Haryana
- 2. Women in a male- dominated sport
- 3. Relationship between siblings
- 4. Mother - daughter relationship

**Options :**

- 485584146369. 1
- 485584146370. 2
- 485584146371. 3
- 485584146372. 4

**Question Number : 208 Question Id : 48558436593 Question Type : MCQ Option Shuffling : No Is Question Mandatory : No Calculator : None Response Time : N.A Think Time : N.A Minimum Instruction Time : 0**

**Correct Marks : 5 Wrong Marks : 1**

**Question Key Details :**

| Key           | Value |
|---------------|-------|
| Comprehension | MCQ   |

दंगल या हिंदी चित्रपटाचा मुख्य विषय .

1. हरियाना राज्यातील शहरी व ग्रामीण समाजविभागणी
2. पुरूषवर्चस्व असलेल्या खेळातील महिला
3. भावंडांमधील नाते
4. आई व मुलीचे नाते

**Options :**

485584146369. 1  
485584146370. 2  
485584146371. 3  
485584146372. 4

**Question Number : 209 Question Id : 48558436594 Question Type : MCQ Option Shuffling : No Is Question Mandatory : No Calculator : None Response Time : N.A Think Time : N.A Minimum Instruction Time : 0**

**Correct Marks : 5 Wrong Marks : 1**

**Question Key Details :**

| Key           | Value |
|---------------|-------|
| Comprehension | MCQ   |

Tagore's alternate school 'Shantiniketan' did **NOT** promote:

1. Open classrooms
2. Simplicity of the learning process
3. Teaching in the mother tongue
4. Discipline in children

**Options :**

485584146373. 1  
485584146374. 2  
485584146375. 3  
485584146376. 4

**Question Number : 209 Question Id : 48558436594 Question Type : MCQ Option Shuffling : No Is Question Mandatory : No Calculator : None Response Time : N.A Think Time : N.A Minimum Instruction Time : 0**

**Correct Marks : 5 Wrong Marks : 1**

**Question Key Details :**

| Key           | Value |
|---------------|-------|
| Comprehension | MCQ   |

तागोरांची शांतिनिकेतन ही शाळा या गोष्टीला प्रोत्साहन देत नाही -

1. मुक्त वर्ग
2. शिक्षणप्रक्रियेतील साधेपणा
3. मातृभाषेतून शिक्षण
4. विद्यार्थ्यांमधील शिस्त

**Options :**

485584146373. 1  
485584146374. 2  
485584146375. 3

485584146376.4

Question Number : 210 Question Id : 48558436595 Question Type : MCQ Option Shuffling : No Is Question Mandatory : No Calculator : None Response Time : N.A Think Time : N.A Minimum Instruction Time : 0

Correct Marks : 5 Wrong Marks : 1

Question Key Details :

| Key           | Value |
|---------------|-------|
| Comprehension | MCQ   |

Which of the following is not a Children's novel?

1. Alimisa
2. Charlie and the Chocolate Factory
3. A Thousand Splendid Suns
4. Wonder

Options :

485584146377. 1  
485584146378. 2  
485584146379. 3  
485584146380. 4

Question Number : 210 Question Id : 48558436595 Question Type : MCQ Option Shuffling : No Is Question Mandatory : No Calculator : None Response Time : N.A Think Time : N.A Minimum Instruction Time : 0

Correct Marks : 5 Wrong Marks : 1

Question Key Details :

| Key           | Value |
|---------------|-------|
| Comprehension | MCQ   |

खालीलपैकी कोणती कादंबरी बालसाहित्य नाही?

1. अहिंसा
2. चार्ली एण्ड द चॉकोलेट फॅक्टरी
3. अ थाऊजंड स्प्लेंडिड सन्स
4. वण्टर

Options :

485584146377. 1  
485584146378. 2  
485584146379. 3  
485584146380. 4

Question Number : 211 Question Id : 48558436596 Question Type : MCQ Option Shuffling : No Is Question Mandatory : No Calculator : None Response Time : N.A Think Time : N.A Minimum Instruction Time : 0

Correct Marks : 5 Wrong Marks : 1

Question Key Details :

| Key           | Value |
|---------------|-------|
| Comprehension | MCQ   |

Which among the following are Pros' of 5G Technology?

- A. Greater Transmission Speed
- B. Overcrowded Radio frequency
- C. Increased connectivity
- D. Wider Coverage
- E. High Energy consumption

Choose the correct answer from the options given below:

- 1. B, C and E only
- 2. A, C and D only
- 3. B, C and D only
- 4. A, C and E only

**Options :**

- 485584146381. 1
- 485584146382. 2
- 485584146383. 3
- 485584146384. 4

**Question Number : 211 Question Id : 48558436596 Question Type : MCQ Option Shuffling : No Is Question Mandatory : No Calculator : None Response Time : N.A Think Time : N.A Minimum Instruction Time : 0**

**Correct Marks : 5 Wrong Marks : 1**

**Question Key Details :**

| Key           | Value |
|---------------|-------|
| Comprehension | MCQ   |

5 G या तंत्रज्ञानात खालीलपैकी कोणते फायदे (pros) आहेत?

- A. संप्रेषणाचा अधिक वेग
- B. रेडियो वारंवारितेची गर्दी
- C. संपर्कक्षेत्रात वाढ
- D. व्यापक वृत्तव्याप्ती
- E. जास्ती उर्जेचा वापर

खालील पर्यायातून योग्य उत्तर निवडा

- 1. B, C आणि E फक्त
- 2. A, C आणि D फक्त
- 3. B, C आणि D फक्त
- 4. A, C आणि E फक्त

**Options :**

- 485584146381. 1
- 485584146382. 2
- 485584146383. 3
- 485584146384. 4

**Question Number : 212 Question Id : 48558436597 Question Type : MCQ Option Shuffling : No Is Question Mandatory : No Calculator : None Response Time : N.A Think Time : N.A Minimum Instruction Time : 0**

**Correct Marks : 5 Wrong Marks : 1**

**Question Key Details :**

| Key | Value |
|-----|-------|
|-----|-------|

The Deep web on internet which is not accessible by the regular search engines like Google Bing is known as:

1. Black web
2. Brown web
3. Dirty web
4. Dark web

**Options :**

485584146385. 1  
485584146386. 2  
485584146387. 3  
485584146388. 4

**Question Number : 212 Question Id : 48558436597 Question Type : MCQ Option Shuffling : No Is Question Mandatory : No Calculator : None Response Time : N.A Think Time : N.A Minimum Instruction Time : 0**

**Correct Marks : 5 Wrong Marks : 1**

**Question Key Details :**

| Key           | Value |
|---------------|-------|
| Comprehension | MCQ   |

गुगल, बिंज यांसारख्या नियमित वापरातील शोध इंजिनांद्वारे अंतरजालावरील ज्या डीप वेबचा शोध घेता येत नाही त्यास \_\_\_\_\_ म्हणतात.

1. ब्लॅक वेब
2. ब्राऊन वेब
3. डर्टी वेब
4. डार्क वेब

**Options :**

485584146385. 1  
485584146386. 2  
485584146387. 3  
485584146388. 4

**Question Number : 213 Question Id : 48558436598 Question Type : MCQ Option Shuffling : No Is Question Mandatory : No Calculator : None Response Time : N.A Think Time : N.A Minimum Instruction Time : 0**

**Correct Marks : 5 Wrong Marks : 1**

**Question Key Details :**

| Key           | Value |
|---------------|-------|
| Comprehension | MCQ   |

In order to foster scientific temper through the means of exciting educational experiences, a teacher can take her students to a:

1. Museum
2. Music program
3. Planetarium
4. Art gallery

**Options :**

485584146389. 1

485584146390. 2  
485584146391. 3  
485584146392. 4

**Question Number : 213 Question Id : 48558436598 Question Type : MCQ Option Shuffling : No Is Question Mandatory : No Calculator :  
None Response Time : N.A Think Time : N.A Minimum Instruction Time : 0  
Correct Marks : 5 Wrong Marks : 1**

**Question Key Details :**

| Key           | Value |
|---------------|-------|
| Comprehension | MCQ   |

वैज्ञानिक दृष्टिकोन विकसित करण्याकरता उत्कृष्टापूर्णा शैक्षणिक अनुभव देण्यासाठी शिक्षिकेने तिच्या विद्यार्थ्यांना ज्यावे-

1. संग्रहालयात
2. गाण्याचा कार्यक्रम
3. तारांगण
4. कलादालन

**Options :**

485584146389. 1  
485584146390. 2  
485584146391. 3  
485584146392. 4

**Question Number : 214 Question Id : 48558436599 Question Type : MCQ Option Shuffling : No Is Question Mandatory : No Calculator :  
None Response Time : N.A Think Time : N.A Minimum Instruction Time : 0  
Correct Marks : 5 Wrong Marks : 1**

**Question Key Details :**

| Key           | Value |
|---------------|-------|
| Comprehension | MCQ   |

Jantar Mantar is an assembly of stone-built astronomical instruments, designed to be used with naked eyes. A visit to Jantar Mantar can help students to learn how \_\_\_\_\_.

1. astronomy was a leisure activity of people in the past.
2. astronomy was practised in buildings made with red stones.
3. people measured time when there were no standard instruments to measure the passing of time.
4. people measured time in those civilizations in which stones were used to build everything.

**Options :**

485584146393. 1  
485584146394. 2  
485584146395. 3  
485584146396. 4

**Question Number : 214 Question Id : 48558436599 Question Type : MCQ Option Shuffling : No Is Question Mandatory : No Calculator :  
None Response Time : N.A Think Time : N.A Minimum Instruction Time : 0  
Correct Marks : 5 Wrong Marks : 1**

**Question Key Details :**

| Key           | Value |
|---------------|-------|
| Comprehension | MCQ   |



जंतर-मंतर हे दगडात बांधलेले, उघड्या डोळ्यांनी पाहण्यासाठी असलेले खगोलशास्त्रीय साधन आहे. जंतर-मंतरला दिलेली भेट विद्यार्थ्यांना हे शिकण्यासाठी उपयुक्त होईल -

1. भूतकाळातील लोकांचा खगोलशास्त्र हा विरंगुळा होता.
2. लाल दगडात बांधलेल्या इमारतींमध्ये खगोलशास्त्राचा वापर होत होता.
3. जेव्हा कालमापन करण्यासाठी कोणतेही प्रमाणभूत साधन नव्हते, तेव्हा लोक कालमापन करत असत.
4. ज्या संस्कृतीत सर्व काही बांधण्यासाठी लोक दगडाचा वापर करत तेव्हा लोक कालमापन करत असत.

**Options :**

485584146393. 1
485584146394. 2
485584146395. 3
485584146396. 4

**Question Number : 215 Question Id : 48558436600 Question Type : MCQ Option Shuffling : No Is Question Mandatory : No Calculator : None Response Time : N.A Think Time : N.A Minimum Instruction Time : 0**

**Correct Marks : 5 Wrong Marks : 1**

**Question Key Details :**

| Key           | Value |
|---------------|-------|
| Comprehension | MCQ   |

The first country to have entered the Mars orbit in its first attempt is:

1. USA
2. China
3. India
4. Russia

**Options :**

485584146397. 1
485584146398. 2
485584146399. 3
485584146400. 4

**Question Number : 215 Question Id : 48558436600 Question Type : MCQ Option Shuffling : No Is Question Mandatory : No Calculator : None Response Time : N.A Think Time : N.A Minimum Instruction Time : 0**

**Correct Marks : 5 Wrong Marks : 1**

**Question Key Details :**

| Key           | Value |
|---------------|-------|
| Comprehension | MCQ   |

पहिल्याच प्रयत्नात मंगळाच्या कक्षेत प्रवेश करणारा पहिला देश -

1. यु. एस. ए.
2. चीन
3. भारत
4. रशिया

**Options :**

485584146397. 1
485584146398. 2

485584146399. 3  
485584146400. 4

**Question Number : 216 Question Id : 48558436601 Question Type : MCQ Option Shuffling : No Is Question Mandatory : No Calculator :  
None Response Time : N.A Think Time : N.A Minimum Instruction Time : 0  
Correct Marks : 5 Wrong Marks : 1**

**Question Key Details :**

| Key           | Value |
|---------------|-------|
| Comprehension | MCQ   |

The project of 'NASA' targeting the landing of first woman/women astronaut/s on moon is known as:

1. MOM
2. ARTEMIS
3. MISMOON
4. Moon opposition

**Options :**

485584146401. 1  
485584146402. 2  
485584146403. 3  
485584146404. 4

**Question Number : 216 Question Id : 48558436601 Question Type : MCQ Option Shuffling : No Is Question Mandatory : No Calculator :  
None Response Time : N.A Think Time : N.A Minimum Instruction Time : 0  
Correct Marks : 5 Wrong Marks : 1**

**Question Key Details :**

| Key           | Value |
|---------------|-------|
| Comprehension | MCQ   |

चंद्रावर पहिली महिला अंतराळवीर उतरवण्याच्या नासाच्या प्रकल्पाचे नाव काय?

1. मॉम
2. अर्टेमिस
3. मिस मून
4. मून अपोजिशन

**Options :**

485584146401. 1  
485584146402. 2  
485584146403. 3  
485584146404. 4

**Question Number : 217 Question Id : 48558436602 Question Type : MCQ Option Shuffling : No Is Question Mandatory : No Calculator :  
None Response Time : N.A Think Time : N.A Minimum Instruction Time : 0  
Correct Marks : 5 Wrong Marks : 1**

**Question Key Details :**

| Key           | Value |
|---------------|-------|
| Comprehension | MCQ   |

Which of the following is NOT true: The turning points of the graph of a function :

1. Represent local maxima and local minima
2. Represent Absolute maxima and Absolute minima
3. Represent point of inflexion
4. Represent neither local maxima nor local minima

**Options :**

485584146405. 1  
485584146406. 2  
485584146407. 3  
485584146408. 4

**Question Number : 217 Question Id : 48558436602 Question Type : MCQ Option Shuffling : No Is Question Mandatory : No Calculator : None Response Time : N.A Think Time : N.A Minimum Instruction Time : 0**

**Correct Marks : 5 Wrong Marks : 1**

**Question Key Details :**

| Key           | Value |
|---------------|-------|
| Comprehension | MCQ   |

खालीलपैकी कोणते विधान असत्य आहे. फलाच्या आलेखाचे परिवर्तन बिंदू -

1. स्थानिक महत्तम व स्थानिक लघुत्तम सूचित करतात.
2. केवळ महत्तम व केवळ लघुत्तम सूचित करतात.
3. नतिपरिवर्तनाचा बिंदू सूचित करतात.
4. स्थानिक महत्तम अथवा स्थानिक लघुत्तम सूचित करत नाहीत.

**Options :**

485584146405. 1  
485584146406. 2  
485584146407. 3  
485584146408. 4

**Question Number : 218 Question Id : 48558436603 Question Type : MCQ Option Shuffling : No Is Question Mandatory : No Calculator : None Response Time : N.A Think Time : N.A Minimum Instruction Time : 0**

**Correct Marks : 5 Wrong Marks : 1**

**Question Key Details :**

| Key           | Value |
|---------------|-------|
| Comprehension | MCQ   |

Any teaching activity which puts before the students the real problems, that they have to solve for themselves, problems for which there are no easy solutions in any book \_\_\_\_\_.

1. brings them close to guide books
2. makes them skilled
3. crafts their activity
4. sharpens their intelligence

**Options :**

485584146409. 1  
485584146410. 2  
485584146411. 3

Question Number : 218 Question Id : 48558436603 Question Type : MCQ Option Shuffling : No Is Question Mandatory : No Calculator :  
None Response Time : N.A Think Time : N.A Minimum Instruction Time : 0  
Correct Marks : 5 Wrong Marks : 1

Question Key Details :

| Key           | Value |
|---------------|-------|
| Comprehension | MCQ   |

ज्या प्रश्नांचे कोणतेही सोपे उत्तर पुस्तकात नाही असे वास्तव प्रश्न जर विद्यार्थ्यांना त्यांचे त्यांनी सोडवावे अशी शैक्षणिक कृती दिली तर ती -

1. त्यांना मार्गदर्शक पुस्तकांच्या जवळ नेईल.
2. त्यांना कौशल्यपूर्ण करेल.
3. त्यांच्या क्रियेवर कलाकुसर करेल.
4. त्यांची बुद्धिमत्ता तीक्ष्ण करेल.

Options :

485584146409. 1  
485584146410. 2  
485584146411. 3  
485584146412. 4

Question Number : 219 Question Id : 48558436604 Question Type : MCQ Option Shuffling : No Is Question Mandatory : No Calculator :  
None Response Time : N.A Think Time : N.A Minimum Instruction Time : 0  
Correct Marks : 5 Wrong Marks : 1

Question Key Details :

| Key           | Value |
|---------------|-------|
| Comprehension | MCQ   |

A mathematics teacher told the students that her laptop and phone can run out of charge independently of each other. The probability that her phone is out of charge is 0.2 and the probability that they are both out of charge is 0.06. Find the probability that her laptop is out of charge.

1. 0.86
2. 0.4
3. 0.3
4. 0.14

Options :

485584146413. 1  
485584146414. 2  
485584146415. 3  
485584146416. 4

Question Number : 219 Question Id : 48558436604 Question Type : MCQ Option Shuffling : No Is Question Mandatory : No Calculator :  
None Response Time : N.A Think Time : N.A Minimum Instruction Time : 0  
Correct Marks : 5 Wrong Marks : 1

Question Key Details :

| Key           | Value |
|---------------|-------|
| Comprehension | MCQ   |

एका गणिताच्या शिक्षिकेने विद्यार्थ्यांना सांगितले की तिचा लॅपटॉप आणि एकमेकांवर अवलंबता विद्यु-भार-रहित होतात. तिचा फोन विद्युत भाररहित होण्याची संभाव्यता 0.2 आहे आणि दोन्ही विद्युतभाररहित होण्याची संभाव्यता 0.2 आहे आणि दोन्ही विद्युतभाररहित होण्याची संभाव्यता 0.06 इतकी आहे. तर तिचा लॅपटॉप विद्युत भाररहित होण्याची संभाव्यता किती?

1. 0.86
2. 0.4
3. 0.3
4. 0.14

**Options :**

485584146413. 1  
485584146414. 2  
485584146415. 3  
485584146416. 4

**Question Number : 220 Question Id : 48558436605 Question Type : MCQ Option Shuffling : No Is Question Mandatory : No Calculator : None Response Time : N.A Think Time : N.A Minimum Instruction Time : 0**

**Correct Marks : 5 Wrong Marks : 1**

**Question Key Details :**

| Key           | Value |
|---------------|-------|
| Comprehension | MCQ   |

By explaining the theory of probability a teacher told that "For a particular  $E_1$  we can use a special formula."

Which theorem is he/she teaching?

1. Conditional Probability Theorem
2. Multiplication Theorem
3. Baye's Theorem
4. Total Probability Theorem

**Options :**

485584146417. 1  
485584146418. 2  
485584146419. 3  
485584146420. 4

**Question Number : 220 Question Id : 48558436605 Question Type : MCQ Option Shuffling : No Is Question Mandatory : No Calculator : None Response Time : N.A Think Time : N.A Minimum Instruction Time : 0**

**Correct Marks : 5 Wrong Marks : 1**

**Question Key Details :**

| Key           | Value |
|---------------|-------|
| Comprehension | MCQ   |

"विशिष्ट  $E_1$  साठी आपण विशेष सिद्धान्त वापरू शकतो" असे संभाव्यतेचा सिद्धान्त स्पष्ट करताना शिक्षक म्हणाले. ते कोणता सिद्धान्त शिकवत असतील?

1. सशर्त संभाव्यता सिद्धान्त
2. गुणन सिद्धान्त
3. बायेचा सिद्धान्त
4. एकूण संभाव्यता सिद्धान्त

**Options :**

485584146417. 1  
485584146418. 2  
485584146419. 3  
485584146420. 4

**Question Number : 221 Question Id : 48558436606 Question Type : MCQ Option Shuffling : No Is Question Mandatory : No Calculator : None Response Time : N.A Think Time : N.A Minimum Instruction Time : 0**

**Correct Marks : 5 Wrong Marks : 1**

**Question Key Details :**

| Key           | Value |
|---------------|-------|
| Comprehension | MCQ   |

If a child draws a tree by observing the trees in her surroundings and her teacher introduced scale drawings to her, the experience can help her to develop a \_\_\_\_\_.

1. sense of aesthetics
2. sense of proportion
3. sense of perspective
4. sense of transference

**Options :**

485584146421. 1  
485584146422. 2  
485584146423. 3  
485584146424. 4

**Question Number : 221 Question Id : 48558436606 Question Type : MCQ Option Shuffling : No Is Question Mandatory : No Calculator : None Response Time : N.A Think Time : N.A Minimum Instruction Time : 0**

**Correct Marks : 5 Wrong Marks : 1**

**Question Key Details :**

| Key           | Value |
|---------------|-------|
| Comprehension | MCQ   |

समजा एका मुलीने तिच्या परिसरातील झाडांचे निरीक्षण करून एक चित्र काढले. त्यानंतर तिच्या शिक्षिकेने तिला प्रमाणबद्ध रेखाटनाची ओळख करून दिली. ती अनुभव तिला कोणती गोष्ट विकसित करायला मदत करेल?

1. सौंदर्यशास्त्राचे भान
2. प्रमाणबद्धतेचे भान
3. दृष्टिकोनाचे भान
4. बदलाचे भान

**Options :**

485584146421. 1  
485584146422. 2  
485584146423. 3  
485584146424. 4

**Question Number : 222 Question Id : 48558436607 Question Type : MCQ Option Shuffling : No Is Question Mandatory : No Calculator : None Response Time : N.A Think Time : N.A Minimum Instruction Time : 0**

**Correct Marks : 5 Wrong Marks : 1**

**Question Key Details :**

| Key           | Value |
|---------------|-------|
| Comprehension | MCQ   |

A lot of school children find mathematics very difficult and social sciences easy. One of the reasons for their perceptive is that

1. mathematics demands expression
2. mathematics is not common knowledge
3. mathematics demands precision
4. mathematics involves concrete images

**Options :**

485584146425. 1  
485584146426. 2  
485584146427. 3  
485584146428. 4

**Question Number : 222 Question Id : 48558436607 Question Type : MCQ Option Shuffling : No Is Question Mandatory : No Calculator : None Response Time : N.A Think Time : N.A Minimum Instruction Time : 0**

**Correct Marks : 5 Wrong Marks : 1**

**Question Key Details :**

| Key           | Value |
|---------------|-------|
| Comprehension | MCQ   |

बहुतेक शालेय विद्यार्थ्यांना गणित हा विषय अवघड जातो तर सामाजिक शास्त्रे हा विषय सोपा जातो. त्यांच्या या दृष्टीकोनामागचे एक कारण म्हणजे -

1. गणित अभिव्यक्तिची मागणी करते
2. गणित म्हणजे सामान्यज्ञान नाही
3. गणित अचूकतेची मागणी करते
4. गणितात मूर्त प्रतिमांचा समावेश असतो

**Options :**

485584146425. 1  
485584146426. 2  
485584146427. 3  
485584146428. 4

**Question Number : 223 Question Id : 48558436608 Question Type : MCQ Option Shuffling : No Is Question Mandatory : No Calculator : None Response Time : N.A Think Time : N.A Minimum Instruction Time : 0**

**Correct Marks : 5 Wrong Marks : 1**

**Question Key Details :**

| Key           | Value |
|---------------|-------|
| Comprehension | MCQ   |

National Gallery of Modern Art (NGMA) is situated in

1. London
2. California
3. Kolkata
4. New Delhi

**Options :**

485584146429. 1  
485584146430. 2  
485584146431. 3  
485584146432. 4

**Question Number : 223 Question Id : 48558436608 Question Type : MCQ Option Shuffling : No Is Question Mandatory : No Calculator : None Response Time : N.A Think Time : N.A Minimum Instruction Time : 0**

**Correct Marks : 5 Wrong Marks : 1**

**Question Key Details :**

| Key           | Value |
|---------------|-------|
| Comprehension | MCQ   |

नेशनल गॅलरी ऑफ मॉडर्न आर्ट कोठे आहे?

1. लंडन
2. कॅलिफोर्निया
3. कलकत्ता
4. नवी दिल्ली

**Options :**

485584146429. 1  
485584146430. 2  
485584146431. 3  
485584146432. 4

**Question Number : 224 Question Id : 48558436609 Question Type : MCQ Option Shuffling : No Is Question Mandatory : No Calculator : None Response Time : N.A Think Time : N.A Minimum Instruction Time : 0**

**Correct Marks : 5 Wrong Marks : 1**

**Question Key Details :**

| Key           | Value |
|---------------|-------|
| Comprehension | MCQ   |

Which School of Art was also known as Graeco Buddhist School of Art?

1. Amravati School of Art
2. Mathura School of Art
3. Gandhara School of Art
4. Bengal School of Art

**Options :**

485584146433. 1  
485584146434. 2  
485584146435. 3  
485584146436. 4



Question Number : 224 Question Id : 48558436609 Question Type : MCQ Option Shuffling : No Is Question Mandatory : No Calculator : None Response Time : N.A Think Time : N.A Minimum Instruction Time : 0

Correct Marks : 5 Wrong Marks : 1

Question Key Details :

| Key           | Value |
|---------------|-------|
| Comprehension | MCQ   |

प्राणको बुद्धिस्ट स्कूल ऑफ आर्ट याही नावाने कोणती कला शाळा ओळखली जाते?

1. अमरावती स्कूल ऑफ आर्ट
2. मथुरा स्कूल ऑफ आर्ट
3. गंधार स्कूल ऑफ आर्ट
4. बंगाल स्कूल ऑफ आर्ट

Options :

485584146433. 1  
485584146434. 2  
485584146435. 3  
485584146436. 4

Question Number : 225 Question Id : 48558436610 Question Type : MCQ Option Shuffling : No Is Question Mandatory : No Calculator : None Response Time : N.A Think Time : N.A Minimum Instruction Time : 0

Correct Marks : 5 Wrong Marks : 1

Question Key Details :

| Key           | Value |
|---------------|-------|
| Comprehension | MCQ   |

What was the profession of Partha Mitter?

1. Painter
2. Sculptor
3. Art Historian
4. Architect

Options :

485584146437. 1  
485584146438. 2  
485584146439. 3  
485584146440. 4

Question Number : 225 Question Id : 48558436610 Question Type : MCQ Option Shuffling : No Is Question Mandatory : No Calculator : None Response Time : N.A Think Time : N.A Minimum Instruction Time : 0

Correct Marks : 5 Wrong Marks : 1

Question Key Details :

| Key           | Value |
|---------------|-------|
| Comprehension | MCQ   |

पार्थ मित्तर यांचा व्यवसाय कोणता?

1. रंगारी/चित्रकार
2. मूर्तिकार
3. कलेतिहासतज्ज्ञ
4. स्थपति

**Options :**

485584146437. 1  
485584146438. 2  
485584146439. 3  
485584146440. 4

**Question Number : 226 Question Id : 48558436611 Question Type : MCQ Option Shuffling : No Is Question Mandatory : No Calculator : None Response Time : N.A Think Time : N.A Minimum Instruction Time : 0**

**Correct Marks : 5 Wrong Marks : 1**

**Question Key Details :**

| Key           | Value |
|---------------|-------|
| Comprehension | MCQ   |

'Contemporary Art in India : A perspective' is a book written by

1. Pran Nath Mago
2. Jasleen Dhamija
3. K. R. Srinivasan
4. Devi Prasad

**Options :**

485584146441. 1  
485584146442. 2  
485584146443. 3  
485584146444. 4

**Question Number : 226 Question Id : 48558436611 Question Type : MCQ Option Shuffling : No Is Question Mandatory : No Calculator : None Response Time : N.A Think Time : N.A Minimum Instruction Time : 0**

**Correct Marks : 5 Wrong Marks : 1**

**Question Key Details :**

| Key           | Value |
|---------------|-------|
| Comprehension | MCQ   |

'कण्टेपररी आर्ट इन इंडिया' हे पुस्तक यांनी लिहिले आहे -

1. प्राण नाथ मागो
2. जसलीन मागो
3. के. आर. श्रीनिवासन
4. देवी प्रसाद

**Options :**

485584146441. 1  
485584146442. 2  
485584146443. 3

485584146444. 4

Question Number : 227 Question Id : 48558436612 Question Type : MCQ Option Shuffling : No Is Question Mandatory : No Calculator :  
None Response Time : N.A Think Time : N.A Minimum Instruction Time : 0  
Correct Marks : 5 Wrong Marks : 1

Question Key Details :

| Key           | Value |
|---------------|-------|
| Comprehension | MCQ   |

A technique of portraying an object to be closer than it actually is, or having less depth or distance, is called \_\_\_\_\_.

1. Depth of field
2. Foreshortening
3. Focusing
4. Illustration

Options :

485584146445. 1  
485584146446. 2  
485584146447. 3  
485584146448. 4

Question Number : 227 Question Id : 48558436612 Question Type : MCQ Option Shuffling : No Is Question Mandatory : No Calculator :  
None Response Time : N.A Think Time : N.A Minimum Instruction Time : 0  
Correct Marks : 5 Wrong Marks : 1

Question Key Details :

| Key           | Value |
|---------------|-------|
| Comprehension | MCQ   |

एखादी वस्तु आहे त्यापेक्षा जवळ किंवा कमी खोलीवर किंवा अंतरावर दाखवण्याच्या तंत्राला \_\_\_\_\_ म्हणतात

1. डेपथ ऑफ फील्ड
2. फोरशॉर्टनिंग
3. फोकसिंग
4. इलस्ट्रेशन

Options :

485584146445. 1  
485584146446. 2  
485584146447. 3  
485584146448. 4

Question Number : 228 Question Id : 48558436613 Question Type : MCQ Option Shuffling : No Is Question Mandatory : No Calculator :  
None Response Time : N.A Think Time : N.A Minimum Instruction Time : 0  
Correct Marks : 5 Wrong Marks : 1

Question Key Details :

| Key           | Value |
|---------------|-------|
| Comprehension | MCQ   |

The artwork 'Santhal Family' made by Ramkinker Vajjis is which medium' form

1. Oil Painting
2. Mural
3. Sculpture
4. Monograph

**Options :**

485584146449. 1  
485584146450. 2  
485584146451. 3  
485584146452. 4

**Question Number : 228 Question Id : 48558436613 Question Type : MCQ Option Shuffling : No Is Question Mandatory : No Calculator : None Response Time : N.A Think Time : N.A Minimum Instruction Time : 0**

**Correct Marks : 5 Wrong Marks : 1**

**Question Key Details :**

| Key           | Value |
|---------------|-------|
| Comprehension | MCQ   |

संथाल फॅमिली या रामकिंकर वैजीज यांच्या कलाकृतीचे माध्यम -

1. तैलरंग
2. भित्तिचित्र
3. शिल्प
4. एकालेख

**Options :**

485584146449. 1  
485584146450. 2  
485584146451. 3  
485584146452. 4

**Question Number : 229 Question Id : 48558436614 Question Type : MCQ Option Shuffling : No Is Question Mandatory : No Calculator : None Response Time : N.A Think Time : N.A Minimum Instruction Time : 0**

**Correct Marks : 5 Wrong Marks : 1**

**Question Key Details :**

| Key           | Value |
|---------------|-------|
| Comprehension | MCQ   |

Match List I with List II

| LIST I |                        | LIST II |            |
|--------|------------------------|---------|------------|
| A.     | Intrusive igneous rock | I.      | Slate      |
| B.     | Extrusive igneous rock | II.     | Basalt     |
| C.     | Sedimentary rock       | III.    | Granite    |
| D.     | Metamorphic rock       | IV.     | Lime stone |

Choose the correct answer from the options given below:

1. A-III, B-II, C-IV, D-I
2. A-I, B-II, C-III, D-IV
3. A-IV, B-III, C-II, D-I
4. A-II, B-III, C-I, D-IV

Options :

485584146453. 1  
485584146454. 2  
485584146455. 3  
485584146456. 4

Question Number : 229 Question Id : 48558436614 Question Type : MCQ Option Shuffling : No Is Question Mandatory : No Calculator : None Response Time : N.A Think Time : N.A Minimum Instruction Time : 0

Correct Marks : 5 Wrong Marks : 1

Question Key Details :

| Key           | Value |
|---------------|-------|
| Comprehension | MCQ   |

यादी I व यादी II जुळवा.

| यादी I |                        | यादी II |            |
|--------|------------------------|---------|------------|
| A.     | अतिक्रमी अग्निजन्य खडक | I.      | स्लेट      |
| B.     | उत्सारित अग्निजन्य खडक | II.     | बसाल्ट     |
| C.     | शाळीचा खडक             | III.    | ग्रॅनाईट   |
| D.     | रूपांतरित खडक          | IV.     | लाईम स्टोन |

खालील पर्यायातून योग्य उत्तर निवडा

1. A-III, B-II, C-IV, D-I
2. A-I, B-II, C-III, D-IV
3. A-IV, B-III, C-II, D-I
4. A-II, B-III, C-I, D-IV

Options :

485584146453. 1  
485584146454. 2  
485584146455. 3  
485584146456. 4

Question Number : 230 Question Id : 48558436615 Question Type : MCQ Option Shuffling : No Is Question Mandatory : No Calculator : None Response Time : N.A Think Time : N.A Minimum Instruction Time : 0

Correct Marks : 5 Wrong Marks : 1

Question Key Details :

| Key           | Value |
|---------------|-------|
| Comprehension | MCQ   |

The content of teaching social sciences should aim at raising students' awareness through

1. questioning of familiar social reality
2. enacting of familiar social reality
3. developing a neutral perspective on society
4. transmitting an idea of society

**Options :**

485584146457. 1  
485584146458. 2  
485584146459. 3  
485584146460. 4

**Question Number : 230 Question Id : 48558436615 Question Type : MCQ Option Shuffling : No Is Question Mandatory : No Calculator : None Response Time : N.A Think Time : N.A Minimum Instruction Time : 0**

**Correct Marks : 5 Wrong Marks : 1**

**Question Key Details :**

| Key           | Value |
|---------------|-------|
| Comprehension | MCQ   |

सामाजिक शास्त्राचे अध्यापन करताना ल्यातील आशयाने कशाप्रकारे विद्यार्थ्यांच्यामध्ये जागरूकता वाढेल असे ध्येय असावे?

1. परिचित सामाजिक वास्तवाबाबत प्रश्न विचारणे
2. परिचित सामाजिक वास्तवाबाबत कृती करणे
3. समाजाबाबत तटस्थ दृष्टीकोन वाढविणे
4. 'समाज ही संकल्पना संक्रमित करणे

**Options :**

485584146457. 1  
485584146458. 2  
485584146459. 3  
485584146460. 4

**Question Number : 231 Question Id : 48558436616 Question Type : MCQ Option Shuffling : No Is Question Mandatory : No Calculator : None Response Time : N.A Think Time : N.A Minimum Instruction Time : 0**

**Correct Marks : 5 Wrong Marks : 1**

**Question Key Details :**

| Key           | Value |
|---------------|-------|
| Comprehension | MCQ   |

Who wrote the book "History of British India" ?

1. James Mill
2. James Rainil
3. Warren Hastings
4. Cornwallis

**Options :**

485584146461. 1  
485584146462. 2  
485584146463. 3

485584146464. 4

**Question Number : 231 Question Id : 48558436616 Question Type : MCQ Option Shuffling : No Is Question Mandatory : No Calculator : None Response Time : N.A Think Time : N.A Minimum Instruction Time : 0 Correct Marks : 5 Wrong Marks : 1**

**Question Key Details :**

| Key           | Value |
|---------------|-------|
| Comprehension | MCQ   |

हिस्ट्री ऑफ ब्रिटिश इंडिया हे पुस्तक कोणी लिहिले?

1. जेम्स मिल
2. जेम्स रेनिल
3. वॉरेन हेस्टिंग्ज
4. कॉर्नवॉलिस

**Options :**

485584146461. 1  
485584146462. 2  
485584146463. 3  
485584146464. 4

**Question Number : 232 Question Id : 48558436617 Question Type : MCQ Option Shuffling : No Is Question Mandatory : No Calculator : None Response Time : N.A Think Time : N.A Minimum Instruction Time : 0 Correct Marks : 5 Wrong Marks : 1**

**Question Key Details :**

| Key           | Value |
|---------------|-------|
| Comprehension | MCQ   |

The school level social sciences encompass \_\_\_\_\_ concerns of society and include a wide range of content drawn from various disciplines.

1. unitary
2. overarching
3. diverse
4. sweeping

**Options :**

485584146465. 1  
485584146466. 2  
485584146467. 3  
485584146468. 4

**Question Number : 232 Question Id : 48558436617 Question Type : MCQ Option Shuffling : No Is Question Mandatory : No Calculator : None Response Time : N.A Think Time : N.A Minimum Instruction Time : 0 Correct Marks : 5 Wrong Marks : 1**

**Question Key Details :**

| Key           | Value |
|---------------|-------|
| Comprehension | MCQ   |

शालेय स्तरावरील सामाजिक विज्ञानांमध्ये समाजाच्या \_\_\_\_\_ समस्यांचा समावेश होतो आणि विविध विषयांमधून काढलेल्या विस्तृत सामग्रीचा समावेश होतो.

1. एकात्मक
2. व्यापक
3. वैविध्यपूर्ण
4. भरमसाट

**Options :**

485584146465. 1  
485584146466. 2  
485584146467. 3  
485584146468. 4

**Question Number : 233 Question Id : 48558436618 Question Type : MCQ Option Shuffling : No Is Question Mandatory : No Calculator : None Response Time : N.A Think Time : N.A Minimum Instruction Time : 0**

**Correct Marks : 5 Wrong Marks : 1**

**Question Key Details :**

| Key           | Value |
|---------------|-------|
| Comprehension | MCQ   |

Which of the following subjects has replaced 'civics' in the school syllabus?

1. Civilization
2. Social and Political life
3. Economic and Social Life
4. Nationalism

**Options :**

485584146469. 1  
485584146470. 2  
485584146471. 3  
485584146472. 4

**Question Number : 233 Question Id : 48558436618 Question Type : MCQ Option Shuffling : No Is Question Mandatory : No Calculator : None Response Time : N.A Think Time : N.A Minimum Instruction Time : 0**

**Correct Marks : 5 Wrong Marks : 1**

**Question Key Details :**

| Key           | Value |
|---------------|-------|
| Comprehension | MCQ   |

खालीलपैकी कोणत्या विषयाने शालेय अभ्यासक्रमात 'नागरिकशास्त्र' ची जागा घेतली आहे?

1. सभ्यता
2. सामाजिक आणि राजकीय जीवन
3. आर्थिक आणि सामाजिक जीवन
4. राष्ट्रवाद

**Options :**

485584146469. 1  
485584146470. 2



485584146471. 3  
485584146472. 4

**Question Number : 234 Question Id : 48558436619 Question Type : MCQ Option Shuffling : No Is Question Mandatory : No Calculator : None Response Time : N.A Think Time : N.A Minimum Instruction Time : 0**  
**Correct Marks : 5 Wrong Marks : 1**

**Question Key Details :**

| Key           | Value |
|---------------|-------|
| Comprehension | MCQ   |

Today, if a teacher wants to teach the importance of good deeds and practicing non-violence, she can use the following as a resource:

1. Ambedkar's writings
2. Jaina teachings
3. Puranic Literature
4. Akbarnama

**Options :**

485584146473. 1  
485584146474. 2  
485584146475. 3  
485584146476. 4

**Question Number : 234 Question Id : 48558436619 Question Type : MCQ Option Shuffling : No Is Question Mandatory : No Calculator : None Response Time : N.A Think Time : N.A Minimum Instruction Time : 0**  
**Correct Marks : 5 Wrong Marks : 1**

**Question Key Details :**

| Key           | Value |
|---------------|-------|
| Comprehension | MCQ   |

आज, जर एखाद्या शिक्षिकेला सत्कर्मांचे महत्त्व आणि अहिंसेचे आचरण शिकवायचे असेल, तर ती खालील मोर्हींचा वापर करू शकते:

1. आंबेडकरांचे लेखन
2. जैनांची शिक्षण
3. पुराण साहित्य
4. अकबरनामा

**Options :**

485584146473. 1  
485584146474. 2  
485584146475. 3  
485584146476. 4

**Question Number : 235 Question Id : 48558436620 Question Type : MCQ Option Shuffling : No Is Question Mandatory : No Calculator : None Response Time : N.A Think Time : N.A Minimum Instruction Time : 0**  
**Correct Marks : 5 Wrong Marks : 1**

**Question Key Details :**

| Key           | Value |
|---------------|-------|
| Comprehension | MCQ   |

Literary devices such as simile and metaphor are used in which of the following?

1. Prose
2. Poetry
3. Grammar
4. Drama

**Options :**

485584146477. 1  
485584146478. 2  
485584146479. 3  
485584146480. 4

**Question Number : 235 Question Id : 48558436620 Question Type : MCQ Option Shuffling : No Is Question Mandatory : No Calculator : None Response Time : N.A Think Time : N.A Minimum Instruction Time : 0**

**Correct Marks : 5 Wrong Marks : 1**

**Question Key Details :**

| Key           | Value |
|---------------|-------|
| Comprehension | MCQ   |

उपमा, रूपक यासारखे अलंकार खालीलपैकी कोठे वापरले जातात?

1. गद्य
2. पद्य
3. व्याकरण
4. नाट्य

**Options :**

485584146477. 1  
485584146478. 2  
485584146479. 3  
485584146480. 4

**Question Number : 236 Question Id : 48558436621 Question Type : MCQ Option Shuffling : No Is Question Mandatory : No Calculator : None Response Time : N.A Think Time : N.A Minimum Instruction Time : 0**

**Correct Marks : 5 Wrong Marks : 1**

**Question Key Details :**

| Key           | Value |
|---------------|-------|
| Comprehension | MCQ   |

'Man is a born child, his power is the power of growth.'

What is the meaning of this sentence?

1. Humans should remain stagnant
2. Humans should refrain from adding to sources of knowledge
3. Intellectual and cognitive regression are important characteristics of humans
4. Intellectual and cognitive development are important characteristics of human.

**Options :**

485584146481. 1  
485584146482. 2

485584146483. 3  
485584146484. 4

Question Number : 236 Question Id : 48558436621 Question Type : MCQ Option Shuffling : No Is Question Mandatory : No Calculator : None Response Time : N.A Think Time : N.A Minimum Instruction Time : 0

Correct Marks : 5 Wrong Marks : 1

Question Key Details :

| Key           | Value |
|---------------|-------|
| Comprehension | MCQ   |

'माणूस मूल म्हणून जन्माला येतो. वाढण्याची क्षमता ही त्याची शक्ती आहे' या विधानाचा अर्थ काय?

1. माणसाने नेहमी कुठित/अवरुध्द राहिले पाहिजे.
2. माणसाने विविध ज्ञानस्त्रोत मिळवण्यापासून परावृत्त झाले पाहिजे.
3. वैचारिक आणि बोधनात्मक प्रतिगामित्व ही माणसाची महत्त्वपूर्ण वैशिष्ट्ये आहेत.
4. वैचारिक आणि बोधनात्मक प्रगती ही माणसाची महत्त्वपूर्ण वैशिष्ट्ये आहेत.

Options :

485584146481. 1  
485584146482. 2  
485584146483. 3  
485584146484. 4

Question Number : 237 Question Id : 48558436622 Question Type : MCQ Option Shuffling : No Is Question Mandatory : No Calculator : None Response Time : N.A Think Time : N.A Minimum Instruction Time : 0

Correct Marks : 5 Wrong Marks : 1

Question Key Details :

| Key           | Value |
|---------------|-------|
| Comprehension | MCQ   |

The Booker Prize 2022 was awarded to which Indian novel?

1. The Alchemist
2. A Tomb of Sand
3. Train to Pakistan
4. One Hundred Years of Solitude

Options :

485584146485. 1  
485584146486. 2  
485584146487. 3  
485584146488. 4

Question Number : 237 Question Id : 48558436622 Question Type : MCQ Option Shuffling : No Is Question Mandatory : No Calculator : None Response Time : N.A Think Time : N.A Minimum Instruction Time : 0

Correct Marks : 5 Wrong Marks : 1

Question Key Details :

| Key           | Value |
|---------------|-------|
| Comprehension | MCQ   |

कोणत्या भारतीय कादंबरीला 2022 चे बुकर पारितोषिक मिळाले?

1. द अल्केमिस्ट
2. अ टोम्ब ऑफ सॅन्त
3. ट्रेन टू पाकिस्तान
4. वन हॅट्रेड इअर्स ऑफ सोलिट्यूड

**Options :**

485584146485. 1  
485584146486. 2  
485584146487. 3  
485584146488. 4

**Question Number : 238 Question Id : 48558436623 Question Type : MCQ Option Shuffling : No Is Question Mandatory : No Calculator : None Response Time : N.A Think Time : N.A Minimum Instruction Time : 0**

**Correct Marks : 5 Wrong Marks : 1**

**Question Key Details :**

| Key           | Value |
|---------------|-------|
| Comprehension | MCQ   |

What are the challenges faced by students while learning English in India?

- A. Lack of trained teachers
- B. Lack of an enabling language environment
- C. Rote memorisation of poems
- D. Objective way of testing language skills
- E. Lack of proper teaching - learning materials

Choose the correct answer from the options given below:

1. A, B, C only
2. B, C, D only
3. A, B, C, D only
4. A, B, C, D and E

**Options :**

485584146489. 1  
485584146490. 2  
485584146491. 3  
485584146492. 4

**Question Number : 238 Question Id : 48558436623 Question Type : MCQ Option Shuffling : No Is Question Mandatory : No Calculator : None Response Time : N.A Think Time : N.A Minimum Instruction Time : 0**

**Correct Marks : 5 Wrong Marks : 1**

**Question Key Details :**

| Key           | Value |
|---------------|-------|
| Comprehension | MCQ   |

इंग्रजी हा विषय शिकताना विद्यार्थ्यांना कोणत्या आज्ञांना सामोरे जावे लागते?

- A. प्रशिक्षित शिक्षकांची उणीव
- B. भाषिक वातावरणाच्या उपलब्धतेची उणीव
- C. अर्थ न समजता केलेले कविता-पाठांतर
- D. भाषिक कौशल्ये तपासण्याचा वस्तुनिष्ठ मार्ग
- E. योग्य त्या अध्ययन-अध्यापन सामग्रीची उणीव

खालील पर्यायातून योग्य उत्तर निवडा

- 1. फक्त A, B, C
- 2. फक्त B, C, D
- 3. फक्त A, B, C, D
- 4. फक्त B, C, D आणि E

**Options :**

- 485584146489. 1
- 485584146490. 2
- 485584146491. 3
- 485584146492. 4

**Question Number : 239 Question Id : 48558436624 Question Type : MCQ Option Shuffling : No Is Question Mandatory : No Calculator : None Response Time : N.A Think Time : N.A Minimum Instruction Time : 0**

**Correct Marks : 5 Wrong Marks : 1**

**Question Key Details :**

| Key           | Value |
|---------------|-------|
| Comprehension | MCQ   |

What is a biography?

- 1. An account of a person written by oneself.
- 2. An account of a person written by others.
- 3. A book of biology.
- 4. A historical account.

**Options :**

- 485584146493. 1
- 485584146494. 2
- 485584146495. 3
- 485584146496. 4

**Question Number : 239 Question Id : 48558436624 Question Type : MCQ Option Shuffling : No Is Question Mandatory : No Calculator : None Response Time : N.A Think Time : N.A Minimum Instruction Time : 0**

**Correct Marks : 5 Wrong Marks : 1**

**Question Key Details :**

| Key           | Value |
|---------------|-------|
| Comprehension | MCQ   |

चरित्र म्हणजे काय?

1. एखाद्या व्यक्तीने स्वतःविषयी केलेले वृत्तान्तवर्णन
2. एखाद्या व्यक्तीने दुसऱ्याविषयी केलेले वृत्तान्तवर्णन
3. जीवशास्त्राचे पुस्तक
4. ऐतिहासिक वृत्तान्तवर्णन

**Options :**

485584146493. 1  
485584146494. 2  
485584146495. 3  
485584146496. 4

**Question Number : 240 Question Id : 48558436625 Question Type : MCQ Option Shuffling : No Is Question Mandatory : No Calculator : None Response Time : N.A Think Time : N.A Minimum Instruction Time : 0**

**Correct Marks : 5 Wrong Marks : 1**

**Question Key Details :**

| Key           | Value |
|---------------|-------|
| Comprehension | MCQ   |

How can grammar books be modified to minimise the difficulties learners face while learning grammar?

- A. By teaching grammar in context
- B. By including pictures and illustrations
- C. By giving more practice and examples
- D. By focusing only on the rules
- E. By translating in different languages

Choose the correct answer from the options given below:

1. A, B, C only
2. A, D, E only
3. C, D, E only
4. B, C, D only

**Options :**

485584146497. 1  
485584146498. 2  
485584146499. 3  
485584146500. 4

**Question Number : 240 Question Id : 48558436625 Question Type : MCQ Option Shuffling : No Is Question Mandatory : No Calculator : None Response Time : N.A Think Time : N.A Minimum Instruction Time : 0**

**Correct Marks : 5 Wrong Marks : 1**

**Question Key Details :**

| Key           | Value |
|---------------|-------|
| Comprehension | MCQ   |

व्याकरणाचे अध्ययन करताना येणाऱ्या समस्या दूर करण्यासाठी व्याकरणाच्या पुस्तकात बदल कसे करता येतील?

- A. संदर्भानुसार व्याकरण शिकवणे
- B. चित्रे, रेखाटने यांनी सजावट करून
- C. जास्तीचे सराव आणि उदाहरणे देऊन
- D. फक्त नियमांवर लक्ष केंद्रित करून
- E. विविध भाषांमध्ये भाषांतर करून

खालील पर्यायातून योग्य उत्तर निवडा

- 1. फक्त A, B, C
- 2. फक्त A, D, E
- 3. फक्त C, D, E
- 4. फक्त B, C, D

**Options :**

- 485584146497. 1
- 485584146498. 2
- 485584146499. 3
- 485584146500. 4

**Sub-Section Number :**

2

**Sub-Section Id :**

4855842703

**Question Shuffling Allowed :**

No

**Is Section Default? :**

null

**Question Number : 241 Question Id : 48558436626 Question Type : MCQ Option Shuffling : No Is Question Mandatory : No Calculator : None Response Time : N.A Think Time : N.A Minimum Instruction Time : 0**

**Correct Marks : 5 Wrong Marks : 1**

**Question Key Details :**

| Key           | Value |
|---------------|-------|
| Comprehension | Comp1 |

At the upper primary level, the emphasis is on engaging the learner in learning principles of science through familiar experiences, working with hands to design simple technological units and modules and continuing to learn more on environment and health through activities and surveys.

As a science teacher, you will agree that scientific concepts are learnt better if learners explore them through activities and experiments. Learners should be given opportunity to explore science in their everyday experiences. You should engage learners (preferably in groups) in meaningful investigations - particularly of the problems they perceive to be significant and important.

As a science teacher, you should encourage discussions with the teacher and peers. You can ask your learners to gather information from newspapers, knowledgeable persons in the neighborhood, and from easily available sources and discuss about them in class with peers and teachers.

Role play, skits, cooperative learning strategies should be adopted to ensure larger participation and sharing of learning outcomes. It is advised that biographical narratives of scientists and inventors can be used. You should keep in mind that efforts should be continued for development of the process skills of science.

In order to explore the orbits and distribution of electrons in orbits, which could be the most appropriate teaching strategy/method?

1. Lecture
2. Demonstration
3. Brain-storming followed by exercise
4. Numerical Practice

Options :

485584146501. 1
485584146502. 2
485584146503. 3
485584146504. 4

Question Number : 241 Question Id : 48558436626 Question Type : MCQ Option Shuffling : No Is Question Mandatory : No Calculator : None Response Time : N.A Think Time : N.A Minimum Instruction Time : 0

Correct Marks : 5 Wrong Marks : 1

Question Key Details :

| Key           | Value |
|---------------|-------|
| Comprehension | Comp1 |

उच्च प्रथमिक स्तरावर, विद्यार्थ्यांनी आपल्या परिचित अनुभवातून विज्ञानाची मूलतत्त्वे समजावून घ्यावीत यासाठी, सोपे तांत्रिक याचे, हाताने बनवावीत यासाठी, परिसर आणि आरोग्यविषयक अधिक ज्ञान कृती आणि सर्वेक्षण घातून प्राप्त करावे या साठी भर दिला पाहिजे.

विविध कृती आणि प्रयोग केल्यामुळे विज्ञानातील संकल्पना स्पष्ट होण्यास जास्त मदत होते. या मताशी एक विज्ञान-शिक्षक म्हणून तुम्ही सहमत वाहाल. दैनंदिन अनुभवातून विज्ञानाचे समन्वेषण करण्यासाठी विद्यार्थ्यांनी संदी दिली पाहिजे. विशेषतः अर्थपूर्ण आणि म्हत्वाच्या प्रश्नांचे आकलन हेण्यासाठी विद्यार्थ्यांना (शक्यतो समूहाने) अर्थपूर्ण संशोधनात गुंतवले पाहिजे.

एक विज्ञान शिक्षक या नात्याने शिक्षकांशी आणि सहाध्यायांशी चर्चा करण्यासाठी तुम्ही प्रोत्साहन दिले पाहिजे. वक्तपत्रे, परिसरातील ज्ञानी लोक आणि सहज उपलब्ध होणाऱ्या स्त्रोतातून त्यांना माहिती गोळा करायला सांगितले पाहिजे आणि त्यावर सहाध्याया व शिक्षकांसोबत वर्गात चर्चा केली पाहिजे.

अध्ययन-निष्पत्तीत विभागातून घेण्यासाठी आणि जास्तीत जास्त सहभागासाठी भूमिका करणे, नाटकुल्या, सामुहिक अध्ययन-प्रक्रिया स्वीकारल्या गेल्या पाहिजेत. शास्त्रज्ञ व संशोधकांची चरित्रेही यासाठी वापरावीत. शास्त्रातील कौशल्ये विकसित करण्यासाठी सातत्याने प्रयत्न केले हे तुम्ही लक्षात ठेवले पाहिजे.

कक्षा, इलेक्ट्रॉनचे कक्षतील विभाजन समजून घेण्यासाठी यापैकी कोणती पद्धत उपयुक्त आहे?

1. व्याख्यान
2. प्रात्यक्षिक
3. चर्चेनंतर केलेला स्वाध्याय
4. संख्यात्मक सराव

Options :

485584146501. 1
485584146502. 2
485584146503. 3
485584146504. 4

Question Number : 242 Question Id : 48558436627 Question Type : MCQ Option Shuffling : No Is Question Mandatory : No Calculator : None Response Time : N.A Think Time : N.A Minimum Instruction Time : 0



Correct Marks : 5 Wrong Marks : 1

Question Key Details :

| Key           | Value |
|---------------|-------|
| Comprehension | Comp1 |

At the upper primary level, the emphasis is on engaging the learner in learning principles of science through familiar experiences, working with hands to design simple technological units and modules and continuing to learn more on environment and health through activities and surveys.

As a science teacher, you will agree that scientific concepts are learnt better if learners explore them through activities and experiments. Learners should be given opportunity to explore science in their everyday experiences. You should engage learners (preferably in groups) in meaningful investigations - particularly of the problems they perceive to be significant and important.

As a science teacher, you should encourage discussions with the teacher and peers. You can ask your learners to gather information from newspapers, knowledgeable persons in the neighborhood, and from easily available sources and discuss about them in class with peers and teachers.

Role play, skits, cooperative learning strategies should be adopted to ensure larger participation and sharing of learning outcomes. It is advised that biographical narratives of scientists and inventors can be used. You should keep in mind that efforts should be continued for development of the process skills of science.

Which would be the most appropriate teaching learning material to explain different types of atomic models?

1. Charts
2. Pictures
3. Video animation
4. Black board

Options :

485584146505. 1

485584146506. 2

485584146507. 3

485584146508. 4

Question Number : 242 Question Id : 48558436627 Question Type : MCQ Option Shuffling : No Is Question Mandatory : No Calculator : None Response Time : N.A Think Time : N.A Minimum Instruction Time : 0

Correct Marks : 5 Wrong Marks : 1

Question Key Details :

| Key           | Value |
|---------------|-------|
| Comprehension | Comp1 |

उच्च प्रथमिक स्तरावर, विद्यार्थ्यांनी आपल्या परिचित अनुभवातून विज्ञानाची मूलतत्त्वे समजावून घ्यावीत यासाठी, सोपे तांत्रिक याचे, हाताने बनवावीत यासाठी, परिसर आणि ओरोम्यविषयक अधिक ज्ञान कृती आणि सर्वेक्षण घातून प्राप्त करावे या साठी भर दिला पाहिजे.

विविध कृती आणि प्रयोग केल्यामुळे विज्ञानातील संकल्पना स्पष्ट होण्यास जास्त मदत होते. या मताशी एक विज्ञान-शिक्षक म्हणून तुम्ही सहमत वाहाल. देनांदिन अनुभवातून विज्ञानाचे समन्वेषण करण्यासाठी विद्यार्थ्यांनी संदी दिली पाहिजे. विशेषतः अर्थपूर्ण आणि म्हत्वाच्या प्रश्नांचे आकलन हेण्यासाठी विद्यार्थ्यांना (साक्ष्यतो समूहाने) अर्थपूर्ण संशोधनात गुंतवले पाहिजे.

एक विज्ञान शिक्षक या नात्याने शिक्षकांशी आणि सहाध्यायांशी चर्चा करण्यासाठी तुम्ही प्रोत्साहन दिले पाहिजे. वक्तपत्रे, परिसरातील ज्ञानी लोक आणि सहज उपलब्ध होणाऱ्या स्रोतातून त्यांना माहिती गोळा करायला सांगितले पाहिजे आणि त्यावर सहाध्याया व शिक्षकांसोबत वर्गात चर्चा केली पाहिजे.

अध्ययन-निष्पत्तीत विभागातून घेण्यासाठी आणि जास्तीत जास्त सहभागासाठी भूमिका करणे, नाटकुक्या, सामुहिक अध्ययन-प्रक्रिया स्वीकारल्या गेल्या पाहिजेत. शास्त्रज्ञ व संशोधकाची चरित्रेही यासाठी वापरावीत. शास्त्रातील कौशल्ये विकसित करण्यासाठी सातत्याने प्रयत्न केले हे तुम्ही लक्षात ठेवले पाहिजे.

अणूच्या प्रतिकृतीचे विविध प्रकार समजवून सांगण्यासाठी कोणते अध्ययन-अध्यापन साधन विशेष योग्य ठरेल?

1. तक्ते
2. चित्रे
3. व्हिडिओ अॅनिमेशन
4. कृष्णफलक

Options :

485584146505. 1  
485584146506. 2  
485584146507. 3  
485584146508. 4

Question Number : 243 Question Id : 48558436628 Question Type : MCQ Option Shuffling : No Is Question Mandatory : No Calculator : None Response Time : N.A Think Time : N.A Minimum Instruction Time : 0

Correct Marks : 5 Wrong Marks : 1

Question Key Details :

| Key           | Value |
|---------------|-------|
| Comprehension | Comp1 |

At the upper primary level, the emphasis is on engaging the learner in learning principles of science through familiar experiences, working with hands to design simple technological units and modules and continuing to learn more on environment and health through activities and surveys.

As a science teacher, you will agree that scientific concepts are learnt better if learners explore them through activities and experiments. Learners should be given opportunity to explore science in their everyday experiences. You should engage learners (preferably in groups) in meaningful investigations - particularly of the problems they perceive to be significant and important.

As a science teacher, you should encourage discussions with the teacher and peers. You can ask your learners to gather information from newspapers, knowledgeable persons in the neighborhood, and from easily available sources and discuss about them in class with peers and teachers.

Role play, skits, cooperative learning strategies should be adopted to ensure larger participation and sharing of learning outcomes. It is advised that biographical narratives of scientists and inventors can be used. You should keep in mind that efforts should be continued for development of the process skills of science.

If a teacher is teaching types of sub-atomic particles and their charges, which could be the most appropriate tool for assessment?

1. Unit tests
2. Oral test
3. A field project
4. Crossword puzzle

**Options :**

485584146509. 1
485584146510. 2
485584146511. 3
485584146512. 4

**Question Number : 243 Question Id : 48558436628 Question Type : MCQ Option Shuffling : No Is Question Mandatory : No Calculator : None Response Time : N.A Think Time : N.A Minimum Instruction Time : 0**

**Correct Marks : 5 Wrong Marks : 1**

**Question Key Details :**

| Key           | Value |
|---------------|-------|
| Comprehension | Comp1 |

उच्च प्रथमिक स्तरावर, विद्यार्थ्यांनी आपल्या परिचित अनुभवातून विज्ञानाची मूलतत्त्वे समजावून घ्यावीत यासाठी, सोपे तांत्रिक याचे, हाताने बनवावीत यासाठी, परिसर आणि ओरोम्याविषयक अधिक ज्ञान कृती आणि सर्वेक्षण घातून प्रस्त करावे या साठी भर दिला पाहिजे.

विविध कृती आणि प्रयोग केल्यामुळे विज्ञानातील संकल्पना स्पष्ट होण्यास जास्त मदत होते. या मताशी एक विज्ञान-शिक्षक म्हणून तुम्ही सहमत वाहाल. देनांदिन अनुभवातून विज्ञानाचे समन्वेषण करण्यासाठी विद्यार्थ्यांनी संदी दिली पाहिजे. विशेषतः अर्थपूर्ण आणि म्हत्वाच्या प्रश्नांचे आकलन हेण्यासाठी विद्यार्थ्यांना (राक्यतो समूहाने) अर्थपूर्ण संशोधनात गुंतवले पाहिजे.

एक विज्ञान शिक्षक या नात्याने शिक्षकांशी आणि सहाध्यायांशी चर्चा करण्यासाठी तुम्ही प्रोत्साहन दिले पाहिजे. वक्तपत्रे, परिसरातील शानी लोक आणि सहज उपलब्ध होणाऱ्या स्त्रोतातून त्यांना माहिती गोळा करायला सांगितले पाहिजे आणि त्यावर सहाध्याया व शिक्षकांसोबत वर्गात चर्चा केली पाहिजे.

अध्ययन-निष्पत्तीत विभागातून घेण्यासाठी आणि जास्तीत जास्त सहभागासाठी भूमिका करणे, नाटकुल्या, सामुहिक अध्ययन-प्रक्रिया स्वीकारल्या गेल्या पाहिजेत. शास्त्रज्ञ व संशोधकाची चरित्रेही यासाठी वापरावीत. शास्त्रातील कौशल्ये विकसित करण्यासाठी सातत्याने प्रयत्न केले हे तुम्ही लक्षात ठेवले पाहिजे.

जर शिक्षक उप-अण्विकरण आणि त्यांचा भार शिकवत असतील, तर मूल्यमापनाचे योग्य साधन कोणते?

1. घटक चाचणी
2. तोंडी परीक्षा
3. क्षेत्रप्रकल्प
4. शब्दकोडे

**Options :**

485584146509. 1
485584146510. 2
485584146511. 3
485584146512. 4

**Question Number : 244 Question Id : 48558436629 Question Type : MCQ Option Shuffling : No Is Question Mandatory : No Calculator :**

None Response Time : N.A Think Time : N.A Minimum Instruction Time : 0

Correct Marks : 5 Wrong Marks : 1

Question Key Details :

| Key           | Value |
|---------------|-------|
| Comprehension | Comp1 |

At the upper primary level, the emphasis is on engaging the learner in learning principles of science through familiar experiences, working with hands to design simple technological units and modules and continuing to learn more on environment and health through activities and surveys.

As a science teacher, you will agree that scientific concepts are learnt better if learners explore them through activities and experiments. Learners should be given opportunity to explore science in their everyday experiences. You should engage learners (preferably in groups) in meaningful investigations - particularly of the problems they perceive to be significant and important.

As a science teacher, you should encourage discussions with the teacher and peers. You can ask your learners to gather information from newspapers, knowledgeable persons in the neighborhood, and from easily available sources and discuss about them in class with peers and teachers.

Role play, skits, cooperative learning strategies should be adopted to ensure larger participation and sharing of learning outcomes. It is advised that biographical narratives of scientists and inventors can be used. You should keep in mind that efforts should be continued for development of the process skills of science.

Which among the following objectives belongs to 'creating' cognitive process domain?

1. making a simple torch
2. explaining how a bulb glows
3. selecting suitable cell for torch
4. Indicating direction of flow of currents

Options :

485584146513. 1

485584146514. 2

485584146515. 3

485584146516. 4

Question Number : 244 Question Id : 48558436629 Question Type : MCQ Option Shuffling : No Is Question Mandatory : No Calculator : None Response Time : N.A Think Time : N.A Minimum Instruction Time : 0

Correct Marks : 5 Wrong Marks : 1

Question Key Details :

| Key           | Value |
|---------------|-------|
| Comprehension | Comp1 |

उच्च प्रथमिक स्तरावर, विद्यार्थ्यांनी आपल्या परिचित अनुभवातून विज्ञानाची मूलतत्त्वे समजावून घ्यावीत यासाठी, सोपे तांत्रिक याचे, हाताने बनवावीत यासाठी, परिसर आणि ओरोम्यविषयक अधिक ज्ञान कृती आणि सर्वेक्षण घातून प्राप्त करावे या साठी भर दिला पाहिजे.

विविध कृती आणि प्रयोग केल्यामुळे विज्ञानातील संकल्पना स्पष्ट होण्यास जास्त मदत होते. या मताशी एक विज्ञान-शिक्षक म्हणून तुम्ही सहमत वाहाल. देनांदिन अनुभवातून विज्ञानाचे समन्वेषण करण्यासाठी विद्यार्थ्यांनी संदी दिली पाहिजे. विशेषतः अर्थपूर्ण आणि म्हत्वाच्या प्रश्नांचे आकलन हेण्यासाठी विद्यार्थ्यांना (साक्ष्यतो समूहाने) अर्थपूर्ण संशोधनात गुंतवले पाहिजे.

एक विज्ञान शिक्षक या नात्याने शिक्षकांशी आणि सहाध्यायांशी चर्चा करण्यासाठी तुम्ही प्रोत्साहन दिले पाहिजे. वृत्तपत्रे, परिसरातील ज्ञानी लोक आणि सहज उपलब्ध होणाऱ्या स्रोतातून त्यांना माहिती गोळा करायला सांगितले पाहिजे आणि त्यावर सहाध्याया व शिक्षकांसोबत वर्गात चर्चा केली पाहिजे.

अध्ययन-निष्पत्तीत विभागातून घेण्यासाठी आणि जास्तीत जास्त सहभागासाठी भूमिका करणे, नाटकुक्या, सामुहिक अध्ययन-प्रक्रिया स्वीकारल्या गेल्या पाहिजेत. शास्त्रज्ञ व संशोधकाची चरित्रेही यासाठी वापरावीत. शास्त्रातील कौशल्ये विकसित करण्यासाठी सातत्याने प्रयत्न केले हे तुम्ही लक्षात ठेवले पाहिजे.

खालीलपैकी कोणते लक्ष्य संबोधनिर्मिती प्रक्रियेशी संलग्न आहे?

1. साधी विजेरी बनवणे
2. दिवा कसा प्रकाशतो ते स्पष्ट करणे
3. विजेरीसाठी योग्य तो विद्युत्घट निवडणे
4. विद्युत्प्रवाहाचा दिशानिर्देश करणे

Options :

485584146513. 1  
485584146514. 2  
485584146515. 3  
485584146516. 4

Question Number : 245 Question Id : 48558436630 Question Type : MCQ Option Shuffling : No Is Question Mandatory : No Calculator : None Response Time : N.A Think Time : N.A Minimum Instruction Time : 0

Correct Marks : 5 Wrong Marks : 1

Question Key Details :

| Key           | Value |
|---------------|-------|
| Comprehension | Comp1 |

At the upper primary level, the emphasis is on engaging the learner in learning principles of science through familiar experiences, working with hands to design simple technological units and modules and continuing to learn more on environment and health through activities and surveys.

As a science teacher, you will agree that scientific concepts are learnt better if learners explore them through activities and experiments. Learners should be given opportunity to explore science in their everyday experiences. You should engage learners (preferably in groups) in meaningful investigations - particularly of the problems they perceive to be significant and important.

As a science teacher, you should encourage discussions with the teacher and peers. You can ask your learners to gather information from newspapers, knowledgeable persons in the neighborhood, and from easily available sources and discuss about them in class with peers and teachers.

Role play, skits, cooperative learning strategies should be adopted to ensure larger participation and sharing of learning outcomes. It is advised that biographical narratives of scientists and inventors can be used. You should keep in mind that efforts should be continued for development of the process skills of science.

Which among the following is a teacher-centered objective?

1. Children identify different types of nutrition in plants.
2. Children explain various methods of getting nutrition in plants.
3. Teachers show images of autotrophic and heterotrophic nutrition.
4. Teachers explain the definition of nutrition and make students memorize it.

**Options :**

485584146517. 1
485584146518. 2
485584146519. 3
485584146520. 4

**Question Number : 245 Question Id : 48558436630 Question Type : MCQ Option Shuffling : No Is Question Mandatory : No Calculator : None Response Time : N.A Think Time : N.A Minimum Instruction Time : 0**

**Correct Marks : 5 Wrong Marks : 1**

**Question Key Details :**

| Key           | Value |
|---------------|-------|
| Comprehension | Comp1 |

उच्च प्रथमिक स्तरावर, विद्यार्थ्यांनी आपल्या परिचित अनुभवातून विज्ञानाची मूलतत्त्वे समजावून घ्यावीत यासाठी, सोपे तांत्रिक याचे, हाताने बनवावीत यासाठी, परिसर आणि ओरोम्यविषयक अधिक ज्ञान कृती आणि सर्वेक्षण यातून प्राप्त करावे या साठी भर दिला पाहिजे.

विविध कृती आणि प्रयोग केल्यामुळे विज्ञानातील संकल्पना स्पष्ट होण्यास जास्त मदत होते. या मताशी एक विज्ञान-शिक्षक म्हणून तुम्ही सहमत वाहाल. दैनंदिन अनुभवातून विज्ञानाचे समन्वेषण करण्यासाठी विद्यार्थ्यांनी संदी दिली पाहिजे. विशेषतः अर्थपूर्ण आणि म्हत्वाच्या प्रश्नांचे आकलन हेण्यासाठी विद्यार्थ्यांना (साक्ष्यतो समूहाने) अर्थपूर्ण संशोधनात गुंतवले पाहिजे.

एक विज्ञान शिक्षक या नात्याने शिक्षकांशी आणि सहाध्यायांशी चर्चा करण्यासाठी तुम्ही प्रोत्साहन दिले पाहिजे. वक्तपत्रे, परिसरातील ज्ञानी लोक आणि सहज उपलब्ध होणाऱ्या स्रोतातून त्यांना माहिती गोळा करायला सांगितले पाहिजे आणि त्यावर सहाध्याया व शिक्षकांसोबत योग्य चर्चा केली पाहिजे.

अध्ययन-निष्पत्तीत विभागातून घेण्यासाठी आणि जास्तीत जास्त सहभागासाठी भूमिका करणे, नाटकुक्या, सामुहिक अध्ययन-प्रक्रिया स्वीकारल्या गेल्या पाहिजेत. शास्त्रज्ञ व संशोधकांची चरित्रेही यासाठी वापरावीत. शास्त्रातील कौशल्ये विकसित करण्यासाठी सातत्याने प्रयत्न केले हे तुम्ही लक्षात ठेवले पाहिजे.

खालीलपैकी शिक्षक-केंद्री ध्येय कोणते?

1. विद्यार्थी वनस्पतीमधील विविध पोषणप्रकार ओळखतात.
2. वनस्पतीतून पोषण मिळवण्याच्या विविध पद्धती विद्यार्थी स्पष्ट करतात.
3. स्वयंपोषित व परपोषित चित्रे शिक्षक दाखवतात.
4. शिक्षक पोषणाची व्याख्या स्पष्ट करतात आणि विद्यार्थ्यांना ती पाठ करायला लावतात.

**Options :**

485584146517. 1
485584146518. 2
485584146519. 3
485584146520. 4

**Sub-Section Number :**

3

**Sub-Section Id :**

4855842704

**Question Shuffling Allowed :**

No

Is Section Default? :

null

Question Number : 246 Question Id : 48558436631 Question Type : MCQ Option Shuffling : No Is Question Mandatory : No Calculator : None Response Time : N.A Think Time : N.A Minimum Instruction Time : 0

Correct Marks : 5 Wrong Marks : 1

Question Key Details :

| Key           | Value |
|---------------|-------|
| Comprehension | Comp2 |

The spider's web occupies a much larger space than does the animal itself. The web represents the spider's field of action in acting as a trap for insects. It is constructed according to a plan. A thread secreted by the spider joins two branches, two rocks, two supports of any kind; then he weaves the rays. The construction proceeds according to a plan. Finally the spider weaves the thread around the center, going around at an always very carefully calculated distance. If the points of support are close together, the web is small. The greater the distance of one from the other, the larger the web will be. But it will always be woven with the same exactness according to a precise plan.

As is the web, so is the mind of the child constructed according to an exact plan. The abstract construction enables him to grasp what happens in his field, which was out of his range heretofore.

Depending on whether the child lives in a simple civilisation or in a complicated world, his web will be more or less large and will enable him to attain more or fewer objectives.

This is why we must respect the interior construction and its manifestations, which may at times seem useless to us. The construction is necessary. It is thanks to this work that the child enlarges his psychic field and subsequently his receptive powers.

To consider the school as the place where instruction is given is one point of view. But to consider the school as a preparation for life is another. In the latter case the school must satisfy all the needs of life.

An education that suppresses the true nature of the child is an education that leads to the development of anomalies.

Scouting, which, outside of school, has brought an organised form of life to children, has therefore always interested us.

According to the passage, what is the significance of a spider's web to a child's education?

1. Education must be spread out in all domains.
2. Field-based learning is a crucial aspect of education.
3. The administrative web poses an impediment to education.
4. A child's mind is also constructed like a web.

Options :

485584146521. 1

485584146522. 2

485584146523. 3

485584146524. 4

Question Number : 246 Question Id : 48558436631 Question Type : MCQ Option Shuffling : No Is Question Mandatory : No Calculator : None Response Time : N.A Think Time : N.A Minimum Instruction Time : 0

Correct Marks : 5 Wrong Marks : 1

Question Key Details :

| Key           | Value |
|---------------|-------|
| Comprehension | Comp2 |

कोळी जेवढा असतो त्याच्यापेक्षा त्याचे जाळे खूप जास्त जागा व्यापते. किल्यांना पकडण्यासाठी सापळा म्हणून काम करणारे ते जाळे केळ्याच्या कार्यक्षेत्राचे प्रतिनिधित्व करते. संरचनेनुसार विणले जाते. कोळी आपल्या अंगातून निर्माण केलेल्या धाग्याने (प्रथम) दोन फांद्या, दोन दगड किंवा कोणतेही त्याप्रकारचे दोन आधार जोडते. मग त्यात किरणांप्रमाणे धागे विणतो. संरचनेनुसार या विणकामात प्रगती होते. अखेरीस तो कोळी काळजीपूर्वक मोजलेल्या अंतरानुसार केंद्राच्या सभोवती धागे विणतो. आधाराचे दोन बिंदू जर जास्त जवळ असतील तर जाळे लहान असते. एका बिंदूचे दुसऱ्यापासूनचे अंतर जर जास्त असेल तर जाळे मोठे होते पण सुनिश्चित संरचनेनुसार सारख्याच अचूकतेने जाळे विणले जाते.

कोळ्याच्या जाळ्याप्रमाणे मुलाचे मनही अचूक संरचनेद्वारा बांधले जाते. अमूर्त संरचनेमुळे त्याच्या क्षेत्रात काय घडतं आहे किंवा त्याच्या मर्यादेपलिकडे काय आहे हे त्याला, समजत नाही. मुलाचे विश्व साधे आहे का जटिल आहे त्यावर त्याचे जाळे लहान किंवा मोठे असते. ते त्याला कमी किंवा जास्त वस्तूंकडे लक्ष द्यायला भाग पाडते. बरेचदा आपल्याला निरुपयोगी वाटणाऱ्या आंतरिक संरचना आणि त्याच्या अभिव्यक्तीचा आपण आदार केला पाहिजे. संरचना आवश्यक असते. या कृतीमुळेच मूल त्याचे मानसिक क्षेत्र विस्तृत करते आणि अनुषंगाने ग्रहणशक्तिसुद्धा.

'जिथे एका रेषेत सूचना दिल्या जातात अशी जागा म्हणजे शाळा' हा एक विचार झाला, पण 'शाळा म्हणजे आयुष्यासाठी तयार करणारी जागा' हा दुसरा विचार. या दुसऱ्या विचारात शाळेने आयुष्याच्या सर्व गरजा भागवल्या पाहिजेत. मुलाच्या नैसर्गिक प्रवृत्तींना टाकणारे शिक्षण त्याच्यातील विसंगती वाढवण्यास मदत करते. जे शाळेबाहेर असते, जे मुलांमध्ये शिस्तबद्ध आयुष्य आणते. त्या स्काऊटिंगमध्ये म्हणूनच आम्हाला नेहमी रस वाटतो.

परिच्छेदानुसार कोळ्याच्या जाळ्याची विद्यार्थ्यांच्या शिक्षणाशी असलेली सार्थकता स्पष्ट करा.

1. शिक्षणाने सर्व क्षेत्रात पसरले पाहिजे.
2. क्षेत्राधारीत शिक्षण ही शिक्षणाची निर्णायक बाजू आहे.
3. व्यवस्थापकीय जाळे हा शिक्षणातला अडथळा आहे.
4. मुलाचे मनही जाळ्याप्रमाणे विणलेले असते.

**Options :**

485584146521. 1  
 485584146522. 2  
 485584146523. 3  
 485584146524. 4

**Question Number : 247 Question Id : 48558436632 Question Type : MCQ Option Shuffling : No Is Question Mandatory : No Calculator : None Response Time : N.A Think Time : N.A Minimum Instruction Time : 0**

**Correct Marks : 5 Wrong Marks : 1**

**Question Key Details :**

| Key           | Value |
|---------------|-------|
| Comprehension | Comp2 |



The spider's web occupies a much larger space than does the animal itself. The web represents the spider's field of action in acting as a trap for insects. It is constructed according to a plan. A thread secreted by the spider joins two branches, two rocks, two supports of any kind; then he weaves the rays. The construction proceeds according to a plan. Finally the spider weaves the thread around the center, going around at an always very carefully calculated distance. If the points of support are close together, the web is small. The greater the distance of one from the other, the larger the web will be. But it will always be woven with the same exactness according to a precise plan.

As is the web, so is the mind of the child constructed according to an exact plan. The abstract construction enables him to grasp what happens in his field, which was out of his range heretofore.

Depending on whether the child lives in a simple civilisation or in a complicated world, his web will be more or less large and will enable him to attain more or fewer objectives.

This is why we must respect the interior construction and its manifestations, which may at times seem useless to us. The construction is necessary. It is thanks to this work that the child enlarges his psychic field and subsequently his receptive powers.

To consider the school as the place where instruction is given is one point of view. But to consider the school as a preparation for life is another. In the latter case the school must satisfy all the needs of life.

An education that suppresses the true nature of the child is an education that leads to the development of anomalies.

Scouting, which, outside of school, has brought an organised form of life to children, has therefore always interested us.

Construction of child's mind is:

1. Independent of his context
2. dependent on school's context only
3. dependent on his context
4. dependent on his family's context only

**Options :**

- 485584146525. 1
- 485584146526. 2
- 485584146527. 3
- 485584146528. 4

**Question Number : 247 Question Id : 48558436632 Question Type : MCQ Option Shuffling : No Is Question Mandatory : No Calculator : None Response Time : N.A Think Time : N.A Minimum Instruction Time : 0**

**Correct Marks : 5 Wrong Marks : 1**

**Question Key Details :**

| Key           | Value |
|---------------|-------|
| Comprehension | Comp2 |

कोळी जेवढा असतो त्याच्यापेक्षा त्याचे जाळे खूप जास्त जागा व्यापते, किल्यांना पकडण्यासाठी सापळा म्हणून काम करणारे ते जाळे केव्हाच्या कार्यक्षेत्राचे प्रतिनिधित्व करते. संरचनेनुसार विणले जाते. कोळी आपल्या अंगातून निर्माण केलेल्या धाग्याने (प्रथम) दोन फांद्या, दोन दगड किंवा कोणतेही त्याप्रकारचे दोन आधार जोडते. मग त्यात किरणांप्रमाणे धागे विणतो. संरचनेनुसार या विणकामात प्रगती होते. अखेरीस तो कोळी काळजीपूर्वक मोजलेल्या अंतरानुसार केंद्राच्या सभोवती धागे विणतो. आधाराचे दोन बिंदू जर जास्त जवळ असतील तर जाळे लहान असते. एका बिंदूचे दुसऱ्यापासूनचे अंतर जर जास्त असेल तर जाळे मोठे होते पण सुनिश्चित संरचनेनुसार सारख्याच अचूकतेने जाळे विणले जाते.

कोळ्याच्या जाळ्याप्रमाणे मुलाचे मनही अचूक संरचनेद्वारा बांधले जाते. अमूर्त संरचनेमुळे त्याच्या क्षेत्रात काय घडतं आहे किंवा त्याच्या मर्यादेपलिकडे काय आहे हे त्याला, समजत नाही. मुलाचे विश्व साधे आहे का जटिल आहे त्यावर त्याचे जाळे लहान किंवा मोठे असते. ते त्याला कमी किंवा जास्त वस्तूंकडे लक्ष द्यायला भाग पाडते. बरेचदा आपल्याला निरुपयोगी वाटणाऱ्या आंतरिक संरचना आणि त्याच्या अभिव्यक्तीचा आपण आदार केला पाहिजे. संरचना आवश्यक असते. या कृतीमुळेच मूल त्याचे मानसिक क्षेत्र विस्तृत करते आणि अनुषंगाने ग्रहणशक्तिसुद्धा.

'जिथे एका रेषेत सूचना दिल्या जातात अशी जागा म्हणजे शाळा' हा एक विचार झाला, पण 'शाळा म्हणजे आयुष्यासाठी तयार करणारी जागा' हा दुसरा वितार. या दुसऱ्या विचारात शाळेने आयुष्याच्या सर्व गरजा भागवल्या पाहिजेत. मुलाच्या नैसर्गिक प्रवृत्तींना टाकणारे शिक्षण त्याच्यातील विसंगती वाढवण्यास मदत करते. जे शाळेबाहेर असते, जे मुलांमध्ये शिस्तबद्ध आयुष्य आणते. त्या स्काऊटिंगमध्ये म्हणूनच आम्हाला नेहमी रस वाटतो.

खाली दोन विधाने दिली आहेत. एकाला विधान A असे नाव दिले आहे, तर दुसऱ्याला कारण R.

विधान A- जर मूल साध्या जगात रहात असेल तर त्याचे मन त्याला थोड्याच गोष्टींकडे लक्ष द्यायला लावते.

कारण R - मुलाच्या सभोवतालालाव्यतिरिक्त त्याच्या मनाची घडण स्वतंत्रपणे होत असते.

या दोन्ही विधानांच्या परिप्रेक्ष्यात खाली दिलेल्या पर्यायातून योग्य उत्तर निवडा.

1. A आणि R दोन्ही विधाने सत्य असून R हे A चे योग्य स्पष्टीकरण आहे.
2. A आणि R दोन्ही विधाने सत्य असून R हे A चे योग्य स्पष्टीकरण नाही.
3. A सत्य आहे पण R असत्य आहे.
4. A असत्य आहे पण R असत्य आहे.

Options :

485584146525. 1  
485584146526. 2  
485584146527. 3  
485584146528. 4

Question Number : 248 Question Id : 48558436633 Question Type : MCQ Option Shuffling : No Is Question Mandatory : No Calculator : None Response Time : N.A Think Time : N.A Minimum Instruction Time : 0

Correct Marks : 5 Wrong Marks : 1

Question Key Details :

| Key           | Value |
|---------------|-------|
| Comprehension | Comp2 |

The spider's web occupies a much larger space than does the animal itself. The web represents the spider's field of action in acting as a trap for insects. It is constructed according to a plan. A thread secreted by the spider joins two branches, two rocks, two supports of any kind; then he weaves the rays. The construction proceeds according to a plan. Finally the spider weaves the thread around the center, going around at an always very carefully calculated distance. If the points of support are close together, the web is small. The greater the distance of one from the other, the larger the web will be. But it will always be woven with the same exactness according to a precise plan.

As is the web, so is the mind of the child constructed according to an exact plan. The abstract construction enables him to grasp what happens in his field, which was out of his range heretofore.

Depending on whether the child lives in a simple civilisation or in a complicated world, his web will be more or less large and will enable him to attain more or fewer objectives.

This is why we must respect the interior construction and its manifestations, which may at times seem useless to us. The construction is necessary. It is thanks to this work that the child enlarges his psychic field and subsequently his receptive powers.

To consider the school as the place where instruction is given is one point of view. But to consider the school as a preparation for life is another. In the latter case the school must satisfy all the needs of life.

An education that suppresses the true nature of the child is an education that leads to the development of anomalies.

Scouting, which, outside of school, has brought an organised form of life to children, has therefore always interested us.

According to the passage, what should be the aim of education?

1. Nurture the true nature of a child.
2. Overpower the interior construction of a child's mind.
3. Restrict a child's psychic field and promote scientific temperament.
4. Provide instruction and enable the child's participation in the economy.

**Options :**

- 485584146529. 1
- 485584146530. 2
- 485584146531. 3
- 485584146532. 4

**Question Number : 248 Question Id : 48558436633 Question Type : MCQ Option Shuffling : No Is Question Mandatory : No Calculator : None Response Time : N.A Think Time : N.A Minimum Instruction Time : 0**

**Correct Marks : 5 Wrong Marks : 1**

**Question Key Details :**

| Key           | Value |
|---------------|-------|
| Comprehension | Comp2 |

कोळी जेवढा असतो त्याच्यापेक्षा त्याचे जाळे खूप जास्त जागा व्यापते, किल्यांना पकडण्यासाठी सापळा म्हणून काम करणारे ते जाळे केव्हाच्या कार्यक्षेत्राचे प्रतिनिधित्व करते. संरचनेनुसार विणले जाते. कोळी आपल्या अंगातून निर्माण केलेल्या धाग्याने (प्रथम) दोन फांद्या, दोन दगड किंवा कोणतेही त्याप्रकारचे दोन आधार जोडते. मग त्यात किरणांप्रमाणे धागे विणतो. संरचनेनुसार या विणकामात प्रगती होते. अखेरीस तो कोळी काळजीपूर्वक मोजलेल्या अंतरानुसार केंद्राच्या सभोवती धागे विणतो. आधाराचे दोन बिंदू जर जास्त जवळ असतील तर जाळे लहान असते. एका बिंदूचे दुसऱ्यापासूनचे अंतर जर जास्त असेल तर जाळे मोठे होते पण सुनिश्चित संरचनेनुसार सारख्याच अचूकतेने जाळे विणले जाते.

कोळ्याच्या जाळ्याप्रमाणे मुलाचे मनही अचूक संरचनेद्वारा बांधले जाते. अमूर्त संरचनेमुळे त्याच्या क्षेत्रात काय घडत आहे किंवा त्याच्या मर्यादेपलिकडे काय आहे हे त्याला, समजत नाही. मुलाचे विश्व साधे आहे का जटिल आहे त्यावर त्याचे जाळे लहान किंवा मोठे असते. ते त्याला कमी किंवा जास्त वस्तूंकडे लक्ष द्यायला भाग पाडते. बरेचदा आपल्याला निरुपयोगी वाटणाऱ्या आंतरिक संरचना आणि त्याच्या अभिव्यक्तीचा आपण आदार केला पाहिजे. संरचना आवश्यक असते. या कृतीमुळेच मूल त्याचे मानसिक क्षेत्र विस्तृत करते आणि अनुषंगाने ग्रहणशक्तिसुद्धा.

'जिथे एका रेषेत सूचना दिल्या जातात अशी जागा म्हणजे शाळा' हा एक विचार झाला, पण 'शाळा म्हणजे आयुष्यासाठी तयार करणारी जागा' हा दुसरा विचार. या दुसऱ्या विचारात शाळेने आयुष्याच्या सर्व गरजा भागवल्या पाहिजेत. मुलाच्या नैसर्गिक प्रवृत्तींना टाकणारे शिक्षण त्याच्यातील विसंगती वाढवण्यास मदत करते. जे शाळेबाहेर असते, जे मुलांमध्ये शिस्तबद्ध आयुष्य आणते. त्या स्काऊटिंगमध्ये म्हणूनच आम्हाला नेहमी रस वाटतो.

या उतान्यानुसार शिक्षणाचे छेद काय असावे?

1. मुलाच्या नैसर्गिक प्रवृत्तीची जोपासना
2. मुलाच्या मनाच्या अंतर्बांधणीवर ताबा मिळवणे
3. मुलाचे मानसिक क्षेत्र मर्यादित करून वैज्ञानिक दृष्टीकोन विकसित करणे
4. सूचना देणे आणि अर्थव्यवस्थेतील मुलाचा सहभाग रद्द करणे

**Options :**

485584146529. 1  
485584146530. 2  
485584146531. 3  
485584146532. 4

**Question Number : 249 Question Id : 48558436634 Question Type : MCQ Option Shuffling : No Is Question Mandatory : No Calculator : None Response Time : N.A Think Time : N.A Minimum Instruction Time : 0**

**Correct Marks : 5 Wrong Marks : 1**

**Question Key Details :**

| Key           | Value |
|---------------|-------|
| Comprehension | Comp2 |

The spider's web occupies a much larger space than does the animal itself. The web represents the spider's field of action in acting as a trap for insects. It is constructed according to a plan. A thread secreted by the spider joins two branches, two rocks, two supports of any kind; then he weaves the rays. The construction proceeds according to a plan. Finally the spider weaves the thread around the center, going around at an always very carefully calculated distance. If the points of support are close together, the web is small. The greater the distance of one from the other, the larger the web will be. But it will always be woven with the same exactness according to a precise plan.

As is the web, so is the mind of the child constructed according to an exact plan. The abstract construction enables him to grasp what happens in his field, which was out of his range heretofore.

Depending on whether the child lives in a simple civilisation or in a complicated world, his web will be more or less large and will enable him to attain more or fewer objectives.

This is why we must respect the interior construction and its manifestations, which may at times seem useless to us. The construction is necessary. It is thanks to this work that the child enlarges his psychic field and subsequently his receptive powers.

To consider the school as the place where instruction is given is one point of view. But to consider the school as a preparation for life is another. In the latter case the school must satisfy all the needs of life.

An education that suppresses the true nature of the child is an education that leads to the development of anomalies.

Scouting, which, outside of school, has brought an organised form of life to children, has therefore always interested us.

In the author's view, what does a limited perspective of education do to a child?

1. Enables him to grasp concepts easily.
2. Helps him to attain more objectives.
3. Suppresses his true nature.
4. Encourages his thinking abilities.

**Options :**

485584146533. 1

485584146534. 2

485584146535. 3

485584146536. 4

**Question Number : 249 Question Id : 48558436634 Question Type : MCQ Option Shuffling : No Is Question Mandatory : No Calculator : None Response Time : N.A Think Time : N.A Minimum Instruction Time : 0**

**Correct Marks : 5 Wrong Marks : 1**

**Question Key Details :**

| Key           | Value |
|---------------|-------|
| Comprehension | Comp2 |

कोळी जेवढा असतो त्याच्यापेक्षा त्याचे जाळे खुप जास्त जागा व्यापते, किल्यांना पकडण्यासाठी सापळा म्हणून काम करणारे ते जाळे केव्हाच्या कार्यक्षेत्राचे प्रतिनिधित्व करते. संरचनेनुसार विणले जाते. कोळी आपल्या अंगातून निर्माण केलेल्या धाग्याने (प्रथम) दोन फांद्या, दोन दगड किंवा कोणतेही त्याप्रकारचे दोन आधार जोडते. मग त्यात किरणांप्रमाणे धागे विणतो. संरचनेनुसार या विणकामात प्रगती होते. अखेरीस तो कोळी काळजीपूर्वक मोजलेल्या अंतरानुसार केंद्राच्या सभोवती धागे विणतो. आधाराचे दोन बिंदू जर जास्त जवळ असतील तर जाळे लहान असते. एका बिंदूचे दुसऱ्यापासूनचे अंतर जर जास्त असेल तर जाळे मोठे होते पण सुनिश्चित संरचनेनुसार सारख्याच अचूकतेने जाळे विणले जाते.

कोळ्याच्या जाळ्याप्रमाणे मुलाचे मनही अचूक संरचनेद्वारा बांधले जाते. अमूर्त संरचनेमुळे त्याच्या क्षेत्रात काय घडत आहे किंवा त्याच्या मर्यादेपलिकडे काय आहे हे त्याला, समजत नाही. मुलाचे विश्व साधे आहे का जटिल आहे त्यावर त्याचे जाळे लहान किंवा मोठे असते. ते त्याला कमी किंवा जास्त वस्तूंकडे लक्ष द्यायला भाग पाडते. बरेचदा आपल्याला निरुपयोगी वाटणाऱ्या आंतरिक संरचना आणि त्याच्या अभिव्यक्तीचा आपण आदार केला पाहिजे. संरचना आवश्यक असते. या कृतीमुळेच मूल त्याचे मानसिक क्षेत्र विस्तृत करते आणि अनुषंगाने ग्रहणशक्तिसुद्धा.

'जिथे एका रेषेत सूचना दिल्या जातात अशी जागा म्हणजे शाळा' हा एक विचार झाला, पण 'शाळा म्हणजे आयुष्यासाठी तयार करणारी जागा' हा दुसरा विचार. या दुसऱ्या विचारात शाळेने आयुष्याच्या सर्व गरजा भागवल्या पाहिजेत. मुलाच्या नैसर्गिक प्रवृत्तींना टाकणारे शिक्षण त्याच्यातील विसंगती वाढवण्यास मदत करते. जे शाळेबाहेर असते, जे मुलांमध्ये शिस्तबद्ध आयुष्य आणते. त्या स्काऊटिंगमध्ये म्हणूनच आम्हाला नेहमी रस वाटतो.

लेखकाच्या मते शिक्षणाविषयीचा मर्यादित दृष्टीकोन मुलाचे काय करू शकतो?

1. संकल्पना सुलभतेने समजून घेण्यास मदत करतो
2. आणखी ध्येये प्राप्त करण्यासाठी त्याला मदत करतो
3. त्याची नैसर्गिक प्रवृत्ती दाबतो
4. त्याच्या विचार करण्याच्या क्षमतेला उत्तेजन देतो

**Options :**

485584146533. 1

485584146534. 2

485584146535. 3

485584146536. 4

**Question Number : 250 Question Id : 48558436635 Question Type : MCQ Option Shuffling : No Is Question Mandatory : No Calculator : None Response Time : N.A Think Time : N.A Minimum Instruction Time : 0**

**Correct Marks : 5 Wrong Marks : 1**

**Question Key Details :**

| Key           | Value |
|---------------|-------|
| Comprehension | Comp2 |

The spider's web occupies a much larger space than does the animal itself. The web represents the spider's field of action in acting as a trap for insects. It is constructed according to a plan. A thread secreted by the spider joins two branches, two rocks, two supports of any kind; then he weaves the rays. The construction proceeds according to a plan. Finally the spider weaves the thread around the center, going around at an always very carefully calculated distance. If the points of support are close together, the web is small. The greater the distance of one from the other, the larger the web will be. But it will always be woven with the same exactness according to a precise plan.

As is the web, so is the mind of the child constructed according to an exact plan. The abstract construction enables him to grasp what happens in his field, which was out of his range heretofore.

Depending on whether the child lives in a simple civilisation or in a complicated world, his web will be more or less large and will enable him to attain more or fewer objectives.

This is why we must respect the interior construction and its manifestations, which may at times seem useless to us. The construction is necessary. It is thanks to this work that the child enlarges his psychic field and subsequently his receptive powers.

To consider the school as the place where instruction is given is one point of view. But to consider the school as a preparation for life is another. In the latter case the school must satisfy all the needs of life.

An education that suppresses the true nature of the child is an education that leads to the development of anomalies.

Scouting, which, outside of school, has brought an organised form of life to children, has therefore always interested us.

Which of the following are characteristics of the construction of a child's mind ?

- A. Moving outside the school restricts a child's mind.
- B. A child's mind is constructed according to a precise plan.
- C. Organisation of a child's mind may affect its receptive abilities.
- D. Inhibiting a child's true nature can lead to the development of abnormality.
- E. Concrete construction enables it to access different kinds of knowledge.

Choose the correct answer from the options given below:

- 1. A, C and D only
- 2. A, B and C only
- 3. B, C and D only
- 4. B, C, D and E only

**Options :**

- 485584146537. 1
- 485584146538. 2
- 485584146539. 3
- 485584146540. 4

**Question Number : 250 Question Id : 48558436635 Question Type : MCQ Option Shuffling : No Is Question Mandatory : No Calculator : None Response Time : N.A Think Time : N.A Minimum Instruction Time : 0**

**Correct Marks : 5 Wrong Marks : 1**

**Question Key Details :**

| Key           | Value |
|---------------|-------|
| Comprehension | Comp2 |

कोळी जेवढा असतो त्याच्यापेक्षा त्याचे जाळे खूप जास्त जागा व्यापते. किल्यांना पकडण्यासाठी सापळा म्हणून काम करणारे ते जाळे केव्हाच्या कार्यक्षेत्राचे प्रतिनिधित्व करते. संरचनेनुसार विणले जाते. कोळी आपल्या अंगातून निर्माण केलेल्या धाग्याने (प्रथम) दोन फांद्या, दोन दगड किंवा कोणतेही त्याप्रकारचे दोन आधार जोडते. मग त्यात किरणांप्रमाणे धागे विणतो. संरचनेनुसार या विणकामात प्रगती होते. अखेरीस तो कोळी कालजीपूर्वक मोजलेल्या अंतरानुसार केंद्राच्या सभोवती धागे विणतो. आधाराचे दोन बिंदू जर जास्त जवळ असतील तर जाळे लहान असते. एका बिंदूचे दुसऱ्यापासूनचे अंतर जर जास्त असेल तर जाळे मोठे होते पण सुनिश्चित संरचनेनुसार सारख्याच अचूकतेने जाळे विणले जाते.

कोळ्याच्या जाळ्याप्रमाणे मुलाचे मनही अचूक संरचनेद्वारा बांधले जाते. अमूर्त संरचनेमुळे त्याच्या क्षेत्रात काय घडतं आहे किंवा त्याच्या मर्यादेपलिकडे काय आहे हे त्याला, समजत नाही. मुलाचे विश्व साधे आहे का जटिल आहे त्यावर त्याचे जाळे लहान किंवा मोठे असते. ते त्याला कमी किंवा जास्त वस्तूंकडे लक्ष द्यायला भाग पाडते. बरेचदा आपल्याला निरुपयोगी वाटणाऱ्या आंतरिक संरचना आणि त्याच्या अभिव्यक्तीचा आपण आदार केला पाहिजे. संरचना आवश्यक असते. या कृतीमुळेच मूल त्याचे मानसिक क्षेत्र विस्तृत करते आणि अनुषंगाने ग्रहणशक्तिसुद्धा.

'जिथे एका रेषेत सूचना दिल्या जातात अशी जागा म्हणजे शाळा' हा एक विचार झाला, पण 'शाळा म्हणजे आयुष्यासाठी तयार करणारी जागा' हा दुसरा वितार. या दुसऱ्या विचारात शाळेने आयुष्याच्या सर्व गरजा भागवल्या पाहिजेत. मुलाच्या नैसर्गिक प्रवृत्तींना टाकणारे शिक्षण त्याच्यातील विसंगती वाढवण्यास मदत करते. जे शाळेबाहेर असते, जे मुलांमध्ये शिस्तबद्ध आयुष्य आणते. त्या स्काऊटिंगमध्ये म्हणूनच आम्हाला नेहमी रस वाटतो.

मुलाच्या मनाच्या घडणीत खालीलपैकी कोणती वैशिष्ट्ये आहेत?

- शाळेच्या बाहेर जाणे मुलाच्या मनाला अडथळा आणते
- अचूक संरचनेनुसार मुलाच्या मनाची बांधणी होते
- मुलाच्या मनाचे व्यवस्थापन त्याच्या आनुषंगिक क्षमतांना अटकाय करते
- मुलाच्या नैसर्गिक कलाला अवरोध करून विकृतीत वाढ करणे
- भक्कम संरचना विविध ज्ञानरचनांमध्ये प्रवेश करून देते

खालील विकल्पामधून योग्य उत्तर निवडा

- A, C आणि D फक्त
- A, B आणि C फक्त
- B, C आणि D फक्त
- B, C, D आणि E फक्त

**Options :**

485584146537. 1
485584146538. 2
485584146539. 3
485584146540. 4