

National Testing Agency

Question Paper Name : 22S3
Subject Name : 22Jun2023 Shift3 Subject Combination 1
Creation Date : 2023-06-22 20:03:07
Duration : 270
Total Marks : 1200
Display Marks: Yes

Tibetan

Group Number : 1
Group Id : 485584821
Group Maximum Duration : 45
Group Minimum Duration : 45
Show Attended Group? : No
Edit Attended Group? : No
Break time : 0
Group Marks : 200
Is this Group for Examiner? : No
Examiner permission : Cant View
Show Progress Bar? : No

Tibetan

Section Id : 485584945
Section Number : 1
Section type : Online
Mandatory or Optional : Mandatory
Number of Questions : 50
Number of Questions to be attempted : 40
Section Marks : 200
Enable Mark as Answered Mark for Review and Clear Response : Yes
Maximum Instruction Time : 0
Sub-Section Number : 1
Sub-Section Id : 4855842686
Question Shuffling Allowed : No
Is Section Default? : null
Sub-Section Number : 2
Sub-Section Id : 4855842687
Question Shuffling Allowed : No
Is Section Default? : null
Sub-Section Number : 3
Sub-Section Id : 4855842688
Question Shuffling Allowed : No
Is Section Default? : null
Sub-Section Number : 4
Sub-Section Id : 4855842689

Question Shuffling Allowed : Yes
Is Section Default? : null

Biology

Group Number : 2
Group Id : 485584822
Group Maximum Duration : 45
Group Minimum Duration : 45
Show Attended Group? : No
Edit Attended Group? : No
Break time : 0
Group Marks : 200
Is this Group for Examiner? : No
Examiner permission : Cant View
Show Progress Bar? : No

Biology

Section Id : 485584946
Section Number : 1
Section type : Online
Mandatory or Optional : Mandatory
Number of Questions : 50
Number of Questions to be attempted : 40
Section Marks : 200
Enable Mark as Answered Mark for Review and Clear Response : Yes
Maximum Instruction Time : 0
Sub-Section Number : 1
Sub-Section Id : 4855842690
Question Shuffling Allowed : Yes
Is Section Default? : null

Question Number : 1 Question Id : 48558436386 Question Type : MCQ Option Shuffling : No Is Question Mandatory : No Calculator : None Response Time : N.A Think Time : N.A Minimum Instruction Time : 0

Correct Marks : 5 Wrong Marks : 1

Question Key Details :

Key	Value
Comprehension	MCQ

Number of chromosomes found in rice gamete is:

1. 8
2. 10
3. 12
4. 14

Options :

485584145541. 1

485584145542. 2

485584145543. 3

485584145544. 4

Question Number : 1 Question Id : 48558436386 Question Type : MCQ Option Shuffling : No Is Question Mandatory : No Calculator : None Response Time : N.A Think Time : N.A Minimum Instruction Time : 0

Correct Marks : 5 Wrong Marks : 1

Question Key Details :

Key	Value
Comprehension	MCQ

அரிசி கேமெட்டுகளில் (அரிசி இனச்செல்) காணப்படும் குரோமோசோம்களின் எண்ணிக்கை:

1. 8

2. 10

3. 12

4. 14

Options :

485584145541. 1

485584145542. 2

485584145543. 3

485584145544. 4

Question Number : 2 Question Id : 48558436387 Question Type : MCQ Option Shuffling : No Is Question Mandatory : No Calculator : None Response Time : N.A Think Time : N.A Minimum Instruction Time : 0

Correct Marks : 5 Wrong Marks : 1

Question Key Details :

Key	Value
Comprehension	MCQ

Match List I with List II

LIST I (Vegetative propagules)		LIST II (Example)	
A.	Leaf buds	I.	Water hyacinth
B.	Rhizome	II.	Agave
C.	Offset	III.	Ginger
D.	Bulbil	IV.	<i>Bryophyllum</i>

Choose the correct answer from the options given below:

1. A-III, B-IV, C-II, D-I

2. A-II, B-IV, C-I, D-III

3. A-IV, B-III, C-I, D-II

4. A-III, B-II, C-IV, D-I

Options :

485584145545. 1
 485584145546. 2
 485584145547. 3
 485584145548. 4

Question Number : 2 Question Id : 48558436387 Question Type : MCQ Option Shuffling : No Is Question Mandatory : No Calculator : None Response Time : N.A Think Time : N.A Minimum Instruction Time : 0

Correct Marks : 5 Wrong Marks : 1

Question Key Details :

Key	Value
Comprehension	MCQ

பட்டியல் I ஐ பட்டியல் II உடன் பொருத்துக

பட்டியல் I (வளரும் தன்மையுடைய இடப்பெருக்க வித்து)		பட்டியல் II (உதாரணம்)	
A.	இலைக் குருத்து	I.	ஆகாயத் தாமரை
B.	தரைமட்டக் தண்டு (ரைசோம்)	II.	கருங்கற்றாழை
C.	பக்கவாட்டு நீட்சி	III.	இஞ்சி
D.	பல்பில்	IV.	பைரோபைல்லம்

கீழே தரப்பட்டுள்ள வாய்ப்புகளில் இருந்து சரியான விடையைத் தேர்ந்தெடுக்கவும்:

1. A-III, B-IV, C-II, D-I
2. A-II, B-IV, C-I, D-III
3. A-IV, B-III, C-I, D-II
4. A-III, B-II, C-IV, D-I

Options :

485584145545. 1
 485584145546. 2
 485584145547. 3
 485584145548. 4

Question Number : 3 Question Id : 48558436388 Question Type : MCQ Option Shuffling : No Is Question Mandatory : No Calculator : None Response Time : N.A Think Time : N.A Minimum Instruction Time : 0

Correct Marks : 5 Wrong Marks : 1

Question Key Details :

Key	Value
Comprehension	MCQ

Residual and persistent nucellus present in some seeds is called:

1. Seed coat
2. Pericarp
3. Perisperm
4. Achene

Options :

485584145549. 1
485584145550. 2
485584145551. 3
485584145552. 4

Question Number : 3 Question Id : 48558436388 Question Type : MCQ Option Shuffling : No Is Question Mandatory : No Calculator : None Response Time : N.A Think Time : N.A Minimum Instruction Time : 0

Correct Marks : 5 Wrong Marks : 1

Question Key Details :

Key	Value
Comprehension	MCQ

சில விதைகளில் காணப்படும் எஞ்சிய மற்றும் உறுதியான நியூசெல்லஸ் இவ்வாறு அழைக்கப்படுகிறது:

1. விதை உறை
2. கனியுறை (பெரிகார்ப்)
3. வித்துச் சுற்றிழையம் (பெரிஸ்பெர்ம்)
4. வெடியா உலர்கனி

Options :

485584145549. 1
485584145550. 2
485584145551. 3
485584145552. 4

Question Number : 4 Question Id : 48558436389 Question Type : MCQ Option Shuffling : No Is Question Mandatory : No Calculator : None Response Time : N.A Think Time : N.A Minimum Instruction Time : 0

Correct Marks : 5 Wrong Marks : 1

Question Key Details :

Key	Value
Comprehension	MCQ

The wall layer which provides nourishment to the developing pollen grains is called:

1. Epidermis
2. Endothecium
3. Middle Layer
4. Tapetum

Options :

485584145553. 1
485584145554. 2
485584145555. 3
485584145556. 4

Question Number : 4 Question Id : 48558436389 Question Type : MCQ Option Shuffling : No Is Question Mandatory : No Calculator : None Response Time : N.A Think Time : N.A Minimum Instruction Time : 0

Correct Marks : 5 Wrong Marks : 1

Question Key Details :

Key	Value
Comprehension	MCQ

வளரும் மகரந்தத் துகள்களுக்கு ஊட்டச் சத்துக்களை கொடுக்கும் சுவர் அடுக்கு இவ்வாறு அழைக்கப்படுகிறது:

1. புறத்தோல் (எபிடெர்மிஸ்)
2. உள்படலம் (எண்டோதீசியம்)
3. மைய அடுக்கு
4. டேப்டம்

Options :

485584145553. 1
485584145554. 2
485584145555. 3
485584145556. 4

Question Number : 5 Question Id : 48558436390 Question Type : MCQ Option Shuffling : No Is Question Mandatory : No Calculator : None Response Time : N.A Think Time : N.A Minimum Instruction Time : 0

Correct Marks : 5 Wrong Marks : 1

Question Key Details :

Key	Value
Comprehension	MCQ

Spermiation is the _____.

1. Process of release of sperms from the seminiferous tubules
2. Process of formation of sperms
3. Transformation of spermatids into sperms
4. Process of formation of spermatogonia

Options :

485584145557. 1
485584145558. 2
485584145559. 3
485584145560. 4

Question Number : 5 Question Id : 48558436390 Question Type : MCQ Option Shuffling : No Is Question Mandatory : No Calculator : None Response Time : N.A Think Time : N.A Minimum Instruction Time : 0

Correct Marks : 5 Wrong Marks : 1

Question Key Details :

Key	Value
Comprehension	MCQ

ஸ்பெர்மியேசன் (விந்தணு) என்பது _____.

1. விந்து நுண்குழல்கலிருந்து விந்துக்கள் வெளியேற்றும் செயல்முறை
2. விந்துக்கள் உருவாக்க செயல்முறை
3. விந்தாகு காலத்தில் விந்து பரிணாம மாற்றம்
4. ஸ்பெர்மடோகோனியா (விந்தணு தோற்ற அகம்) உருவாக்க செயல்முறை

Options :

485584145557. 1
485584145558. 2
485584145559. 3
485584145560. 4

Question Number : 6 Question Id : 48558436391 Question Type : MCQ Option Shuffling : No Is Question Mandatory : No Calculator : None Response Time : N.A Think Time : N.A Minimum Instruction Time : 0

Correct Marks : 5 Wrong Marks : 1

Question Key Details :

Key	Value
Comprehension	MCQ

Which of the following hormones are secreted by placenta?

- A. hCG
- B. hPL
- C. Estrogens
- D. Progestogens
- E. Relaxin

Choose the correct answer from the options given below:

1. A, B, and E only
2. A, B, C and E only
3. A, B, D and E only
4. A, B, C and D only

Options :

- 485584145561. 1
- 485584145562. 2
- 485584145563. 3
- 485584145564. 4

Question Number : 6 Question Id : 48558436391 Question Type : MCQ Option Shuffling : No Is Question Mandatory : No Calculator : None Response Time : N.A Think Time : N.A Minimum Instruction Time : 0

Correct Marks : 5 Wrong Marks : 1

Question Key Details :

Key	Value
Comprehension	MCQ

பின்வருபவனவற்றுள் நஞ்சுக்கொடியால் (பிளாசென்டா) சுரக்கப்படும் ஹார்மோன்கள் எவை?

- A. hCG
- B. hPL
- C. ஈஸ்ட்ரோஜன்கள்
- D. புரோஜெஸ்டோஜன்கள்
- E. ரிலாக்சின்

கீழே தரப்பட்டுள்ள வாய்ப்புகளில் இருந்து சரியான விடையைத் தேர்ந்தெடுக்கவும்:

1. A, B மற்றும் E மட்டும்
2. A, B, C மற்றும் E மட்டும்
3. A, B, D மற்றும் E மட்டும்
4. A, B, C மற்றும் D மட்டும்

Options :

- 485584145561. 1

485584145562. 2

485584145563. 3

485584145564. 4

Question Number : 7 Question Id : 48558436392 Question Type : MCQ Option Shuffling : No Is Question Mandatory : No Calculator : None Response Time : N.A Think Time : N.A Minimum Instruction Time : 0

Correct Marks : 5 Wrong Marks : 1

Question Key Details :

Key	Value
Comprehension	MCQ

Which of the following disease is completely curable if detected early?

1. Genital herpes
2. HIV infections
3. Hepatitis-B
4. Trichomoniasis

Options :

485584145565. 1

485584145566. 2

485584145567. 3

485584145568. 4

Question Number : 7 Question Id : 48558436392 Question Type : MCQ Option Shuffling : No Is Question Mandatory : No Calculator : None Response Time : N.A Think Time : N.A Minimum Instruction Time : 0

Correct Marks : 5 Wrong Marks : 1

Question Key Details :

Key	Value
Comprehension	MCQ

பின்வரும் நோய்களில் எந்த ஒன்றை ஆரம்பக் கட்டத்திலேயே கண்டறிந்தால் முழுமையாக குணப்படுத்த முடியும்?

1. பிறப்புறுப்பு அக்கி (ஜெனிட்டல் ஹெர்பஸ்)
2. HIV நோய்த்தொற்றுகள்
3. ஹெப்படைடிஸ்-B
4. ஓரணு ஒட்டுண்ணி கருச்சிதைவு நோய் (டிரைக்கோமோனியாசிஸ்)

Options :

485584145565. 1

485584145566. 2

485584145567. 3

485584145568. 4

Question Number : 8 Question Id : 48558436393 Question Type : MCQ Option Shuffling : No Is Question Mandatory : No Calculator : None Response Time : N.A Think Time : N.A Minimum Instruction Time : 0

Correct Marks : 5 Wrong Marks : 1

Question Key Details :

Key	Value
Comprehension	MCQ

Identify the terminal methods to prevent pregnancy.

- A. Tubectomy
- B. Vasectomy
- C. IUDs
- D. Cervical caps

Choose the correct answer from the options given below:

- 1. A and D only
- 2. A and C only
- 3. B and D only
- 4. A and B only

Options :

- 485584145569. 1
- 485584145570. 2
- 485584145571. 3
- 485584145572. 4

Question Number : 8 Question Id : 48558436393 Question Type : MCQ Option Shuffling : No Is Question Mandatory : No Calculator : None Response Time : N.A Think Time : N.A Minimum Instruction Time : 0

Correct Marks : 5 Wrong Marks : 1

Question Key Details :

Key	Value
Comprehension	MCQ

கருவுருதலைத் தவிர்க்க பயன்படுத்தப்படும் டெர்மினல் முறையைக் கண்டறியவும்.

- A. டியூபக்டமி
- B. வாசெக்டமி
- C. IUDகள்
- D. செர்விகல் கேப்ஸ்

கீழே தரப்பட்டுள்ள வாய்ப்புகளில் இருந்து சரியான விடையைத் தேர்ந்தெடுக்கவும்:

- 1. A மற்றும் D மட்டும்
- 2. A மற்றும் C மட்டும்
- 3. B மற்றும் D மட்டும்
- 4. A மற்றும் B மட்டும்

Options :

- 485584145569. 1
- 485584145570. 2
- 485584145571. 3
- 485584145572. 4

Question Number : 9 Question Id : 48558436394 Question Type : MCQ Option Shuffling : No Is Question Mandatory : No Calculator : None Response Time : N.A Think Time : N.A Minimum Instruction Time : 0

Correct Marks : 5 Wrong Marks : 1

Question Key Details :

Key	Value
Comprehension	MCQ

The person with karyotype 44+XXY is suffering from:

- 1. Down's Syndrome
- 2. Klinefelter's Syndrome
- 3. Turner's Syndrome
- 4. Edward's Syndrome

Options :

- 485584145573. 1
- 485584145574. 2
- 485584145575. 3
- 485584145576. 4

Question Number : 9 Question Id : 48558436394 Question Type : MCQ Option Shuffling : No Is Question Mandatory : No Calculator : None Response Time : N.A Think Time : N.A Minimum Instruction Time : 0

Correct Marks : 5 Wrong Marks : 1

Question Key Details :

Key	Value
-----	-------

உட்கரு வகை (கேரியோடைப்) 44+XXY கொண்டிருள்ள நபர் இதனால் பாதிக்கப்படுகிறார்:

1. டவுன்'ஸ் நோய்த்தொற்று
2. கிளைன்பெல்டர் நோய்த்தொற்று
3. டர்னரின் நோய்த்தொற்று
4. எட்வர்ட்ஸ் நோய்த்தொற்று

Options :

485584145573. 1
485584145574. 2
485584145575. 3
485584145576. 4

Question Number : 10 Question Id : 48558436395 Question Type : MCQ Option Shuffling : No Is Question Mandatory : No Calculator : None Response Time : N.A Think Time : N.A Minimum Instruction Time : 0

Correct Marks : 5 Wrong Marks : 1

Question Key Details :

Key	Value
Comprehension	MCQ

Select the mendelian disorders from the following:

- A. Thalassemia
- B. Turner's Syndrome
- C. Cystic Fibrosis
- D. Sickle cell anaemia

Choose the *correct answer* from the options given below:

1. B and D only
2. A, C and D only
3. B, C and D only
4. A and D only

Options :

485584145577. 1
485584145578. 2
485584145579. 3
485584145580. 4

Question Number : 10 Question Id : 48558436395 Question Type : MCQ Option Shuffling : No Is Question Mandatory : No Calculator : None Response Time : N.A Think Time : N.A Minimum Instruction Time : 0

Correct Marks : 5 Wrong Marks : 1

Question Key Details :

Key	Value
Comprehension	MCQ

பின்வருபவனவற்றுள் மெண்டலின் குறைபாடுகளைத் தேர்ந்தெடுக்கவும்

- A. தலசீமியா (இரத்த அழிவுச் சோகை)
- B. டர்னரின் நோய்த்தொற்று
- C. சிஸ்டிக் ஃபைப்ரோசிஸ்
- D. சிக்கில் செல் அனீமியா (அரிவாள் உயிரணு இரத்தச்சோகை)

கீழே தரப்பட்டுள்ள வாய்ப்புகளில் இருந்து சரியான விடையைத் தேர்ந்தெடுக்கவும்:

- 1. B, D மட்டும்
- 2. A, C, D மட்டும்
- 3. B, C, D மட்டும்
- 4. A, D மட்டும்

Options :

- 485584145577. 1
- 485584145578. 2
- 485584145579. 3
- 485584145580. 4

Question Number : 11 Question Id : 48558436396 Question Type : MCQ Option Shuffling : No Is Question Mandatory : No Calculator : None Response Time : N.A Think Time : N.A Minimum Instruction Time : 0

Correct Marks : 5 Wrong Marks : 1

Question Key Details :

Key	Value
Comprehension	MCQ

Match List I with List II

LIST I		LIST II	
A.	Phenotype reflects the contribution of each allele	I.	Pleiotropy
B.	Multiple phenotypic expressions by a single gene	II.	Linkage
C.	Generation of non-parental gene combinations	III.	Polygenic inheritance
D.	Parental gene combinations higher than non-parental type in F_2 progeny	IV.	Recombination

Choose the correct answer from the options given below:

1. A-III, B-I, C-IV, D-II
2. A-I, B-IV, C-II, D-III
3. A-III, B-IV, C-I, D-II
4. A-I, B-III, C-II, D-IV

Options :

485584145581. 1
485584145582. 2
485584145583. 3
485584145584. 4

Question Number : 11 Question Id : 48558436396 Question Type : MCQ Option Shuffling : No Is Question Mandatory : No Calculator : None Response Time : N.A Think Time : N.A Minimum Instruction Time : 0

Correct Marks : 5 Wrong Marks : 1

Question Key Details :

Key	Value
Comprehension	MCQ

பட்டியல் I ஐ பட்டியல் II உடன் பொருத்துக

பட்டியல் I		பட்டியல் II	
A.	தோற்றவகை என்பது ஒவ்வொரு இணை மரபணுவின் பங்கினை பிரதிபலிக்கிறது	I.	பல் பண்புக்கடத்து மரபணு
B.	ஒரு ஒற்றை ஜீனால் உருவாக்கப்படும் பல தோற்றவகை வெளிப்பாடு	II.	மரபுப் பிணைப்பு
C.	பெற்றோர் அல்லாத ஜீன் கலப்புகள் உருவாக்கம்	III.	பல்மரபணு மரபுவழி
D.	F_2 சந்ததியில் பெற்றோர் ஜீன் கலப்பு பெற்றோர் அல்லாத ஜீன் கலப்பை விட அதிகம்	IV.	மீள் இணைவு

கீழே தரப்பட்டுள்ள வாய்ப்புகளில் இருந்து சரியான விடையைத் தேர்ந்தெடுக்கவும்:

1. A-III, B-I, C-IV, D-II
2. A-I, B-IV, C-II, D-III
3. A-III, B-IV, C-I, D-II
4. A-I, B-III, C-II, D-IV

Options :

485584145581. 1
485584145582. 2
485584145583. 3
485584145584. 4

Question Number : 12 Question Id : 48558436397 Question Type : MCQ Option Shuffling : No Is Question Mandatory : No Calculator : None Response Time : N.A Think Time : N.A Minimum Instruction Time : 0

Correct Marks : 5 Wrong Marks : 1

Question Key Details :

Key	Value
Comprehension	MCQ

Point mutations means:

1. Change in one base pair
2. Change in one allele
3. Change of base pair at a location without any significance
4. Addition or deletion of codons in multiple of three at a point

Options :

485584145585. 1
485584145586. 2

485584145587. 3

485584145588. 4

Question Number : 12 Question Id : 48558436397 Question Type : MCQ Option Shuffling : No Is Question Mandatory : No Calculator : None Response Time : N.A Think Time : N.A Minimum Instruction Time : 0

Correct Marks : 5 Wrong Marks : 1

Question Key Details :

Key	Value
Comprehension	MCQ

புள்ளி சடுதி மாற்றம் என்பது:

1. ஒரு அடிப்படை இணையில் மாற்றம்
2. ஒரு இணை மரபணுவில் மாற்றம்
3. ஒரு இடத்தில் எந்தவொரு அறிகுறியும் இல்லாமல் அடிப்படை இணையில் மாற்றம்
4. ஒரு புள்ளியில் மூன்றின் மடங்கில் குறிமுறையன்கள் சேர்க்கை அல்லது நீக்கம்

Options :

485584145585. 1

485584145586. 2

485584145587. 3

485584145588. 4

Question Number : 13 Question Id : 48558436398 Question Type : MCQ Option Shuffling : No Is Question Mandatory : No Calculator : None Response Time : N.A Think Time : N.A Minimum Instruction Time : 0

Correct Marks : 5 Wrong Marks : 1

Question Key Details :

Key	Value
Comprehension	MCQ

Which of the following is a stop codon?

1. UAC
2. UAG
3. UAU
4. AUG

Options :

485584145589. 1

485584145590. 2

485584145591. 3

485584145592. 4

Question Number : 13 Question Id : 48558436398 Question Type : MCQ Option Shuffling : No Is Question Mandatory : No Calculator : None Response Time : N.A Think Time : N.A Minimum Instruction Time : 0

Correct Marks : 5 Wrong Marks : 1

Question Key Details :

Key	Value
Comprehension	MCQ

பின்வருபவனவற்றுள் எது நிறுத்து குறிமுறையன்கள்?

1. UAC
2. UAG
3. UAU
4. AUG

Options :

485584145589. 1
485584145590. 2
485584145591. 3
485584145592. 4

Question Number : 14 Question Id : 48558436399 Question Type : MCQ Option Shuffling : No Is Question Mandatory : No Calculator : None Response Time : N.A Think Time : N.A Minimum Instruction Time : 0

Correct Marks : 5 Wrong Marks : 1

Question Key Details :

Key	Value
Comprehension	MCQ

Match List I with List II

LIST I (Codes)		LIST II (Codes for)	
A.	UUU	I.	Phenylalanine
B.	AUG	II.	Initiator codon
C.	UAA	III.	Terminator codon
D.	GUU	IV.	Valine

Choose the correct answer from the options given below:

1. A-I, B-II, C-III, D-IV
2. A-II, B-I, C-III, D-IV
3. A-I, B-II, C-IV, D-III
4. A-III, B-IV, C-I, D-II

Options :

485584145593. 1
485584145594. 2
485584145595. 3
485584145596. 4

Question Number : 14 Question Id : 48558436399 Question Type : MCQ Option Shuffling : No Is Question Mandatory : No Calculator : None Response Time : N.A Think Time : N.A Minimum Instruction Time : 0

Correct Marks : 5 Wrong Marks : 1

Question Key Details :

Key	Value
Comprehension	MCQ

பட்டியல் I ஐ பட்டியல் II உடன் பொருத்துக

பட்டியல் I (குறியீடுகள்)	பட்டியல் II (பொருள்)
A. UUU	I. பீனையலனின்
B. AUG	II. தொடக்க குறிமுறையன்கள்
C. UAA	III. இறுதி குறிமுறையன்கள்
D. GUU	IV. வாலின்

கீழே தரப்பட்டுள்ள வாய்ப்புகளில் இருந்து சரியான விடையைத் தேர்ந்தெடுக்கவும்:

1. A-I, B-II, C-III, D-IV
2. A-II, B-I, C-III, D-IV
3. A-I, B-II, C-IV, D-III
4. A-III, B-IV, C-I, D-II

Options :

485584145593. 1
485584145594. 2
485584145595. 3
485584145596. 4

Question Number : 15 Question Id : 48558436400 Question Type : MCQ Option Shuffling : No Is Question Mandatory : No Calculator : None Response Time : N.A Think Time : N.A Minimum Instruction Time : 0

Correct Marks : 5 Wrong Marks : 1

Question Key Details :

Key	Value
Comprehension	MCQ

Multiple additions of new genes or alleles to the new population and their loss from the old population of a particular place due to migration is known as:

1. Gene flow
2. Genetic drift
3. Mutation
4. Natural selection

Options :

485584145597. 1
485584145598. 2

485584145599. 3

485584145600. 4

Question Number : 15 Question Id : 48558436400 Question Type : MCQ Option Shuffling : No Is Question Mandatory : No Calculator : None Response Time : N.A Think Time : N.A Minimum Instruction Time : 0

Correct Marks : 5 Wrong Marks : 1

Question Key Details :

Key	Value
Comprehension	MCQ

புதிய இனத்தில் பல புதிய ஜீன்கள் அல்லது இணை மரபணுக்களின் சேர்க்கை மற்றும் முந்தைய இனத்தில் இடப்பெயர்வு காரணமாக குறிப்பிட்ட இடத்தில் ஏற்படும் இழப்பு இவ்வாறு அழைக்கப்படும்:

1. மரபணு ஒட்டம்
2. மரபணு மாற்றம்
3. சடுதி மாற்றம்
4. இயற்கை தேர்வு

Options :

485584145597. 1

485584145598. 2

485584145599. 3

485584145600. 4

Question Number : 16 Question Id : 48558436401 Question Type : MCQ Option Shuffling : No Is Question Mandatory : No Calculator : None Response Time : N.A Think Time : N.A Minimum Instruction Time : 0

Correct Marks : 5 Wrong Marks : 1

Question Key Details :

Key	Value
Comprehension	MCQ

Australian marsupials show the phenomena of:

1. Convergent evolution
2. Adaptive radiation
3. Isolation
4. Saltation

Options :

485584145601. 1

485584145602. 2

485584145603. 3

485584145604. 4

Question Number : 16 Question Id : 48558436401 Question Type : MCQ Option Shuffling : No Is Question Mandatory : No Calculator : None Response Time : N.A Think Time : N.A Minimum Instruction Time : 0

Correct Marks : 5 Wrong Marks : 1

Question Key Details :

Key	Value
Comprehension	MCQ

ஆஸ்திரேலிய மர்சுபியல்ஸ் (வயிற்று பையில் குட்டி பேணும்) இந்த தத்துவத்தைக் குறிக்கிறது:

1. பரிமாணம்
2. தழுவிப் பரவல்
3. தனித்தெடுத்தல்
4. வாரி இழைத்தல்

Options :

485584145601. 1
485584145602. 2
485584145603. 3
485584145604. 4

Question Number : 17 Question Id : 48558436402 Question Type : MCQ Option Shuffling : No Is Question Mandatory : No Calculator : None Response Time : N.A Think Time : N.A Minimum Instruction Time : 0

Correct Marks : 5 Wrong Marks : 1

Question Key Details :

Key	Value
Comprehension	MCQ

Identify the examples of evolution caused due to anthropogenic actions:

- A. *Bacillus thuringiensis* and Lepidopterans
- B. Industrial melanism in moths
- C. Resistant microbes against antibiotics
- D. Pesticides and insects

Choose the correct answer from the options given below:

1. A, B and C only
2. A, B and D only
3. B, C and D only
4. A, C and D Only

Options :

485584145605. 1
485584145606. 2
485584145607. 3
485584145608. 4

Question Number : 17 Question Id : 48558436402 Question Type : MCQ Option Shuffling : No Is Question Mandatory : No Calculator : None Response Time : N.A Think Time : N.A Minimum Instruction Time : 0
Correct Marks : 5 Wrong Marks : 1

Question Key Details :

Key	Value
Comprehension	MCQ

மனித இனத்தோற்ற வளர்ச்சி (ஆந்த்ரோபோஜெனிக்) செயல்கள் காரணமாக ஏற்பட்ட பரிணாமத்திற்கான உதாரணங்களைக் கண்டறிக:

- A. பேசில்லஸ் துரிஞ்சியன்சிஸ் மற்றும் லெபிடோப்டெரன்ஸ் (வண்ணத்துப்பூச்சி இன வரிசை)
- B. அந்துப்பூச்சிகளில் தொழில்துறை மெலனிசம்
- C. நோயெதிர்ப்பிகளுக்கு எதிராக எதிர்ப்பு நுண்ணுயிரிகள்
- D. பூச்சுக்கொல்லிகள் மற்றும் பூச்சிகள்

கீழே தரப்பட்டுள்ள வாய்ப்புகளில் இருந்து சரியான விடையைத் தேர்ந்தெடுக்கவும்:

- 1. A, B, C
- 2. A, B, D
- 3. B, C, D
- 4. A, C, D

Options :

- 485584145605. 1
- 485584145606. 2
- 485584145607. 3
- 485584145608. 4

Question Number : 18 Question Id : 48558436403 Question Type : MCQ Option Shuffling : No Is Question Mandatory : No Calculator : None Response Time : N.A Think Time : N.A Minimum Instruction Time : 0

Correct Marks : 5 Wrong Marks : 1

Question Key Details :

Key	Value
Comprehension	MCQ

The presence of which disease is confirmed by Widal Test?

- 1. Malaria
- 2. Pneumonia
- 3. Typhoid
- 4. AIDS

Options :

- 485584145609. 1
- 485584145610. 2

485584145611. 3

485584145612. 4

Question Number : 18 Question Id : 48558436403 Question Type : MCQ Option Shuffling : No Is Question Mandatory : No Calculator : None Response Time : N.A Think Time : N.A Minimum Instruction Time : 0

Correct Marks : 5 Wrong Marks : 1

Question Key Details :

Key	Value
Comprehension	MCQ

வீடால் சோதனை மூலம் எந்த நோய் இருப்பது கண்டறியப்படுகிறது?

1. மலேரியா
2. நிமோனியா
3. டைப்பாய்டு
4. எய்ட்ஸ்

Options :

485584145609. 1

485584145610. 2

485584145611. 3

485584145612. 4

Question Number : 19 Question Id : 48558436404 Question Type : MCQ Option Shuffling : No Is Question Mandatory : No Calculator : None Response Time : N.A Think Time : N.A Minimum Instruction Time : 0

Correct Marks : 5 Wrong Marks : 1

Question Key Details :

Key	Value
Comprehension	MCQ

Arrange the stages of HIV infection in humans sequentially.

- A. Introduction of viral DNA in the cell
- B. Production of multiple viruses
- C. Infection of human cell by virus
- D. Incorporation of viral DNA into host genome

Choose the correct answer from the options given below:

1. A, B, D, C
2. C, A, D, B
3. D, A, B, C
4. B, A, D, C

Options :

485584145613. 1

485584145614. 2

485584145615. 3

485584145616. 4

Question Number : 19 Question Id : 48558436404 Question Type : MCQ Option Shuffling : No Is Question Mandatory : No Calculator : None Response Time : N.A Think Time : N.A Minimum Instruction Time : 0

Correct Marks : 5 Wrong Marks : 1

Question Key Details :

Key	Value
Comprehension	MCQ

மனிதரில் HIV நோய்தொற்று நிலைகளை சரியான வரிசையில் அமைக்கவும்.

- A. செல்லில் வைரஸ் DNA அறிமுகம்
- B. பல்வேறு வைரஸ்களின் உற்பத்தி
- C. வைரஸ் மூலம் மனித செல்லில் நோய்தொற்று
- D. அயல் மரபணு வைரஸ் DNA உருவாக்கம்

கீழே தரப்பட்டுள்ள வாய்ப்புகளில் இருந்து சரியான விடையைத் தேர்ந்தெடுக்கவும்:

- 1. A, B, D, C
- 2. C, A, D, B
- 3. D, A, B, C
- 4. B, A, D, C

Options :

485584145613. 1

485584145614. 2

485584145615. 3

485584145616. 4

Question Number : 20 Question Id : 48558436405 Question Type : MCQ Option Shuffling : No Is Question Mandatory : No Calculator : None Response Time : N.A Think Time : N.A Minimum Instruction Time : 0

Correct Marks : 5 Wrong Marks : 1

Question Key Details :

Key	Value
Comprehension	MCQ

Match List I with List II

LIST I Causal organism		LIST II Disease	
A.	<i>Wuchereria bancrofti</i>	I.	Ringworm
B.	<i>Microsporium</i>	II.	Elephantiasis
C.	<i>Entamoeba histolytica</i>	III.	Malaria
D.	<i>Plasmodium vivax</i>	IV.	Amoebiasis

Choose the correct answer from the options given below:

1. A-II, B-I, C-IV, D-III
2. A-I, B-II, C-III, D-IV
3. A-IV, B-III, C-II, D-I
4. A-I, B-II, C-IV, D-III

Options :

485584145617. 1
485584145618. 2
485584145619. 3
485584145620. 4

Question Number : 20 Question Id : 48558436405 Question Type : MCQ Option Shuffling : No Is Question Mandatory : No Calculator : None Response Time : N.A Think Time : N.A Minimum Instruction Time : 0

Correct Marks : 5 Wrong Marks : 1

Question Key Details :

Key	Value
Comprehension	MCQ

பட்டியல் I ஐ பட்டியல் II உடன் பொருத்துக

பட்டியல் I தற்செயலான உயிரி		பட்டியல் II நோய்	
A.	வுச்செரீரியா பேன்க்ரோப்டி	I.	வளையப்புழு
B.	மைக்ரோஸ்போரம்	II.	யானைக்கால் நோய்
C.	எண்டமீபா ஹிஸ்டோபிடிசா	III.	மலேரியா
D.	பிளாஸ்மோடியம் வைவாக்ஸ்	IV.	அமீபா அழற்சி

கீழே தரப்பட்டுள்ள வாய்ப்புகளில் இருந்து சரியான விடையைத் தேர்ந்தெடுக்கவும்:

1. A-II, B-I, C-IV, D-III
2. A-I, B-II, C-III, D-IV
3. A-IV, B-III, C-II, D-I
4. A-I, B-II, C-IV, D-III

Options :

485584145617. 1
485584145618. 2
485584145619. 3
485584145620. 4

Question Number : 21 Question Id : 48558436406 Question Type : MCQ Option Shuffling : No Is Question Mandatory : No Calculator : None Response Time : N.A Think Time : N.A Minimum Instruction Time : 0

Correct Marks : 5 Wrong Marks : 1

Question Key Details :

Key	Value
Comprehension	MCQ

Homozygosity is achieved through :

1. Recombinant DNA technology
2. Vaccination
3. Inbreeding
4. Hybridoma technology

Options :

485584145621. 1
485584145622. 2
485584145623. 3
485584145624. 4

Question Number : 21 Question Id : 48558436406 Question Type : MCQ Option Shuffling : No Is Question Mandatory : No Calculator : None Response Time : N.A Think Time : N.A Minimum Instruction Time : 0

Correct Marks : 5 Wrong Marks : 1

Question Key Details :

Key	Value
Comprehension	MCQ

ஓத்த பாலியற்கணிக்த தன்மை (ஹோமோசைக்கோசிட்டி) இதன் மூலம் அடையப்படுகிறது

1. இனக்கலப்பு DNA தொழில்நுட்பம்
2. தடுப்பூசி
3. உட்கலப்பு/ அக இனப்பெருக்கம்
4. கலப்பின உயிரணு தொழில்நுட்பம்

Options :

485584145621. 1
485584145622. 2
485584145623. 3
485584145624. 4

Question Number : 22 Question Id : 48558436407 Question Type : MCQ Option Shuffling : No Is Question Mandatory : No Calculator : None Response Time : N.A Think Time : N.A Minimum Instruction Time : 0

Correct Marks : 5 Wrong Marks : 1

Question Key Details :

Key	Value
Comprehension	MCQ

Arrange the steps involved in breeding a crop for a new genetic variety in sequence.

- A. Selection and testing of superior recombinants
- B. Evaluation and selection of parents
- C. Collection of variability
- D. Testing release and commercialisation of new cultivars
- E. Cross hybridisation among selected parents

Choose the correct answer from the options given below:

1. A → C → B → E → D
2. B → D → A → C → E
3. C → B → E → A → D
4. D → B → A → E → C

Options :

485584145625. 1
485584145626. 2
485584145627. 3

485584145628. 4

Question Number : 22 Question Id : 48558436407 Question Type : MCQ Option Shuffling : No Is Question Mandatory : No Calculator : None Response Time : N.A Think Time : N.A Minimum Instruction Time : 0

Correct Marks : 5 Wrong Marks : 1

Question Key Details :

Key	Value
Comprehension	MCQ

புதிய மரபணு வகையைப் பெற பயிர்களில் மேற்கொள்ளப்படும் இனப்பெருக்கம்/சேய்ப்பெருக்கத்தில் உள்ள படிக்களை சரியான வரிசையில் அமைக்கவும்.

- A. மேம்பட்ட மீள்சேர்க்கைகளை தேர்ந்தெடுத்து பரிசோதித்தல்
- B. பெற்றோர்களை மதிப்பீடு செய்து தேர்ந்தெடுத்தல்
- C. மாறுபாட்டின் தொகுப்பு
- D. சோதனை வெளியீடு மற்றும் புதிய சாகுபடிகளின் வணிகமயமாக்கல்
- E. தேர்ந்தெடுக்கப்பட்ட பெற்றோரிடையே குறுக்கு கலப்பு

கீழே தரப்பட்டுள்ள வாய்ப்புகளில் இருந்து சரியான விடையைத் தேர்ந்தெடுக்கவும்.

- 1. A → C → B → E → D
- 2. B → D → A → C → E
- 3. C → B → E → A → D
- 4. D → B → A → E → C

Options :

- 485584145625. 1
- 485584145626. 2
- 485584145627. 3
- 485584145628. 4

Question Number : 23 Question Id : 48558436408 Question Type : MCQ Option Shuffling : No Is Question Mandatory : No Calculator : None Response Time : N.A Think Time : N.A Minimum Instruction Time : 0

Correct Marks : 5 Wrong Marks : 1

Question Key Details :

Key	Value
Comprehension	MCQ

Match List I with List II

LIST I		LIST II	
A.	<i>Apis indica</i>	I.	Dairying
B.	<i>Caixa</i>	II.	Poultry
C.	Leghorn	III.	Fisheries
D.	Jersey	IV.	Bee-keeping

Choose the correct answer from the options given below:

1. A-I, B-II, C-III, D-IV
2. A-II, B-I, C-III, D-IV
3. A-IV, B-III, C-II, D-I
4. A-III, B-IV, C-I, D-II

Options :

485584145629. 1
485584145630. 2
485584145631. 3
485584145632. 4

Question Number : 23 Question Id : 48558436408 Question Type : MCQ Option Shuffling : No Is Question Mandatory : No Calculator : None Response Time : N.A Think Time : N.A Minimum Instruction Time : 0

Correct Marks : 5 Wrong Marks : 1

Question Key Details :

Key	Value
Comprehension	MCQ

பட்டியல் I ஐ பட்டியல் II உடன் பொருத்துக

பட்டியல் I		பட்டியல் II	
A.	ஏபிஸ் இண்டிகா	I.	பால்பண்ணை
B.	கடலா	II.	கோழிப்பண்ணை
C.	லெக்ஹார்ன்	III.	மீன்பண்ணை
D.	ஜெர்சி	IV.	தேனீ வளர்ப்பு

கீழே தரப்பட்டுள்ள வாய்ப்புகளில் இருந்து சரியான விடையைத் தேர்ந்தெடுக்கவும்:

1. A-I, B-II, C-III, D-IV
2. A-II, B-I, C-III, D-IV
3. A-IV, B-III, C-II, D-I
4. A-III, B-IV, C-I, D-II

Options :

485584145629. 1
485584145630. 2
485584145631. 3

485584145632. 4

Question Number : 24 Question Id : 48558436409 Question Type : MCQ Option Shuffling : No Is Question Mandatory : No Calculator : None Response Time : N.A Think Time : N.A Minimum Instruction Time : 0

Correct Marks : 5 Wrong Marks : 1

Question Key Details :

Key	Value
Comprehension	MCQ

Which of the following microbe serves as an important biofertiliser in paddy field?

1. Cyanobacteria
2. *Rhizobium*
3. Mycorrhiza
4. *Bacillus thuringiensis*

Options :

485584145633. 1
485584145634. 2
485584145635. 3
485584145636. 4

Question Number : 24 Question Id : 48558436409 Question Type : MCQ Option Shuffling : No Is Question Mandatory : No Calculator : None Response Time : N.A Think Time : N.A Minimum Instruction Time : 0

Correct Marks : 5 Wrong Marks : 1

Question Key Details :

Key	Value
Comprehension	MCQ

பின்வருபவனவற்றுள் நெல் வயல்களில் முக்கிய உயிரி உரமாக பயன்படும் நுண்ணுயிரி எது?

1. சையனோபாக்டீரியா
2. ரிசோபியம்
3. மைக்கோரைசா
4. பேசில்லஸ் துரிஞ்சியென்சிஸ்

Options :

485584145633. 1
485584145634. 2
485584145635. 3
485584145636. 4

Question Number : 25 Question Id : 48558436410 Question Type : MCQ Option Shuffling : No Is Question Mandatory : No Calculator : None Response Time : N.A Think Time : N.A Minimum Instruction Time : 0

Correct Marks : 5 Wrong Marks : 1

Question Key Details :

Key	Value
Comprehension	MCQ

Identify the correct statements with respect to microbes.

- A. "Toddy" the traditional drink obtained by fermenting sap of Palm tree.
- B. Swiss cheese's large holes are due to activity of *Saccharomyces cerevisiae*.
- C. "Penicillin" was discovered by Alexander Fleming.
- D. The Cyclosporin A, is produced by *Trichoderma polysporum*.

Choose the the correct answer from the options given below:

- 1. A, B and D only
- 2. A and B only
- 3. A, C, and D only
- 4. C and D only

Options :

- 485584145637. 1
- 485584145638. 2
- 485584145639. 3
- 485584145640. 4

Question Number : 25 Question Id : 48558436410 Question Type : MCQ Option Shuffling : No Is Question Mandatory : No Calculator : None Response Time : N.A Think Time : N.A Minimum Instruction Time : 0

Correct Marks : 5 Wrong Marks : 1

Question Key Details :

Key	Value
Comprehension	MCQ

நுண்ணுயிரிகள் தொடர்பான சரியான கூற்றுகளைக் கண்டறியவும்.

- A. "டோடி" எனும் பாரம்பரிய பானம் பனை மரத்திலிருந்து கிடைக்கும் சாறு புளிக்க வைப்பதன் மூலம் பெறப்படுகிறது.
- B. சாக்கரோமைசஸ் செர்விசா செயல்கள் காரணமாக கவிஸ் சீஸ்களில் பெரிய துளை காணப்படுகிறது.
- C. அலெக்சாண்டர் பிளெம்மிங் என்பவர் "பெனிசிலினை" கண்டுபிடித்தார்.
- D. சைக்ளோஸ்போரின் A, டிரைகோடெர்மா பாவிஸ்போரம் மூலம் உற்பத்தி செய்யப்படுகிறது.

கீழே தரப்பட்டுள்ள வாய்ப்புகளில் இருந்து சரியான விடையைத் தேர்ந்தெடுக்கவும்:

1. A, B மற்றும் D மட்டும்
2. A மற்றும் B மட்டும்
3. A, C மற்றும் D மட்டும்
4. C மற்றும் D மட்டும்

Options :

- 485584145637. 1
- 485584145638. 2
- 485584145639. 3
- 485584145640. 4

Question Number : 26 Question Id : 48558436411 Question Type : MCQ Option Shuffling : No Is Question Mandatory : No Calculator : None Response Time : N.A Think Time : N.A Minimum Instruction Time : 0

Correct Marks : 5 Wrong Marks : 1

Question Key Details :

Key	Value
Comprehension	MCQ

Match List I with List II

LIST I Organism		LIST II Product	
A.	<i>Streptococcus</i>	I.	Citric acid
B.	<i>Aspergillus niger</i>	II.	Streptokinase
C.	<i>Monascus purpureus</i>	III.	Ethanol
D.	<i>Saccharomyces cerevisiae</i>	IV.	Statins

Choose the correct answer from the options given below:

1. A-II, B-I, C-IV, D-III
2. A-I, B-II, C-III, D-IV
3. A-II, B-I, C-III, D-IV
4. A-III, B-IV, C-I, D-II

Options :

485584145641. 1
485584145642. 2
485584145643. 3
485584145644. 4

Question Number : 26 Question Id : 48558436411 Question Type : MCQ Option Shuffling : No Is Question Mandatory :
No Calculator : None Response Time : N.A Think Time : N.A Minimum Instruction Time : 0

Correct Marks : 5 Wrong Marks : 1

Question Key Details :

Key	Value
Comprehension	MCQ

பட்டியல் I ஐ பட்டியல் II உடன் பொருத்துக

பட்டியல் I உயிரி	பட்டியல் II தயாரிப்பு
A. ஸ்ட்ரெப்டோகாக்கஸ்	I. சிட்ரிக் அமிலம்
B. ஆஸ்பர்ஜில்லஸ் நைஜர்	II. ஸ்ட்ரெப்டோகைனேஸ்
C. மோனாஸ்கஸ் பர்புராஸ்	III. எத்தனால்
D. சாக்கரோமைசிஸ் செரிவிசா	IV. ஸ்டேடின்

கீழே தரப்பட்டுள்ள வாய்ப்புகளில் இருந்து சரியான விடையைத் தேர்ந்தெடுக்கவும்:

1. A-II, B-I, C-IV, D-III
2. A-I, B-II, C-III, D-IV
3. A-II, B-I, C-III, D-IV
4. A-III, B-IV, C-I, D-II

Options :

485584145641. 1
485584145642. 2
485584145643. 3
485584145644. 4

Question Number : 27 Question Id : 48558436412 Question Type : MCQ Option Shuffling : No Is Question Mandatory :
No Calculator : None Response Time : N.A Think Time : N.A Minimum Instruction Time : 0

Correct Marks : 5 Wrong Marks : 1

Question Key Details :

Key	Value
Comprehension	MCQ

Which of the following is not a part of downstream processing?

1. Separation
2. Purification
3. Quality control
4. Biosynthesis

Options :

485584145645. 1
485584145646. 2
485584145647. 3
485584145648. 4

Question Number : 27 Question Id : 48558436412 Question Type : MCQ Option Shuffling : No Is Question Mandatory : No Calculator : None Response Time : N.A Think Time : N.A Minimum Instruction Time : 0

Correct Marks : 5 Wrong Marks : 1

Question Key Details :

Key	Value
Comprehension	MCQ

பின்வருபவனவற்றுள் எது கீழ்நிலை செயல்முறையில் ஒரு பகுதியல்ல?

1. பிரித்தெடுத்தல்
2. தூய்மையாக்கல்
3. தரக் கட்டுப்பாடு
4. உயிரிசேர்க்கை

Options :

485584145645. 1
485584145646. 2
485584145647. 3
485584145648. 4

Question Number : 28 Question Id : 48558436413 Question Type : MCQ Option Shuffling : No Is Question Mandatory : No Calculator : None Response Time : N.A Think Time : N.A Minimum Instruction Time : 0

Correct Marks : 5 Wrong Marks : 1

Question Key Details :

Key	Value
Comprehension	MCQ

Which was the first restriction endonuclease discovered?

1. *EcoRI*
2. *BamHI*
3. *Hind II*
4. *Pst I*

Options :

485584145649. 1
485584145650. 2
485584145651. 3
485584145652. 4

Question Number : 28 Question Id : 48558436413 Question Type : MCQ Option Shuffling : No Is Question Mandatory : No Calculator : None Response Time : N.A Think Time : N.A Minimum Instruction Time : 0

Correct Marks : 5 Wrong Marks : 1

Question Key Details :

Key	Value
Comprehension	MCQ

முதன் முதலில் கண்டறியப்பட்ட எதிர்ப்பு எண்டோநியூக்ளியேஸ் எது?

1. *EcoRI*
2. *BamHI*
3. *Hind II*
4. *Pst I*

Options :

485584145649. 1
485584145650. 2
485584145651. 3
485584145652. 4

Question Number : 29 Question Id : 48558436414 Question Type : MCQ Option Shuffling : No Is Question Mandatory : No Calculator : None Response Time : N.A Think Time : N.A Minimum Instruction Time : 0

Correct Marks : 5 Wrong Marks : 1

Question Key Details :

Key	Value
Comprehension	MCQ

The correct sequence of steps to obtain gene of interest from pool of DNA is:

- A. Cutting of DNA using restriction endonuclease.
- B. Viewing the ethidium bromide stained gel under UV light.
- C. Loading of DNA in wells.
- D. Cutting and extraction of DNA piece from gel.
- E. Separation of DNA fragments according to their molecular size.

Choose the correct answer from the options given below:

1. A, C, E, B, D
2. A, D, C, B, E
3. E, D, B, C, A
4. D, E, C, A, B

Options :

485584145653. 1
485584145654. 2
485584145655. 3
485584145656. 4

Question Number : 29 Question Id : 48558436414 Question Type : MCQ Option Shuffling : No Is Question Mandatory : No Calculator : None Response Time : N.A Think Time : N.A Minimum Instruction Time : 0

Correct Marks : 5 Wrong Marks : 1

Question Key Details :

Key	Value
Comprehension	MCQ

DNA தொகுப்பின் விருப்பமுள்ள மரபணுவை பெறுவதற்கான சரியான படிகளை வரிசைப்படுத்துக:

- A. எதிர்ப்பு எண்டோநியூக்ளியஸ் பயன்படுத்தி DNA வை வெட்டுதல்.
- B. UV ஒளியின் கீழ் எத்திடயம் புரோமைடு படிந்த ஜெல்லை பார்த்தல்.
- C. வெல்களில்(wells) DNA ஐ ஏற்றுதல்.
- D. ஜெல்லில் இருந்து DNA துண்டை வெட்டி பிரித்தெடுத்தல்.
- E. அவற்றின் மூலக்கூறு அளவின் அடிப்படையில் DNA துண்டுகளை பிரித்தல்.

கீழே தரப்பட்டுள்ள வாய்ப்புகளில் இருந்து சரியான விடையைத் தேர்ந்தெடுக்கவும்:

1. A, C, E, B, D
2. A, D, C, B, E
3. E, D, B, C, A
4. D, E, C, A, B

Options :

485584145653. 1

485584145654. 2

485584145655. 3

485584145656. 4

Question Number : 30 Question Id : 48558436415 Question Type : MCQ Option Shuffling : No Is Question Mandatory : No Calculator : None Response Time : N.A Think Time : N.A Minimum Instruction Time : 0

Correct Marks : 5 Wrong Marks : 1

Question Key Details :

Key	Value
Comprehension	MCQ

Over 95% of all existing transgenic animals are:

1. Mice
2. Goat
3. Rabbit
4. Pig

Options :

485584145657. 1

485584145658. 2

485584145659. 3

485584145660. 4

Question Number : 30 Question Id : 48558436415 Question Type : MCQ Option Shuffling : No Is Question Mandatory : No Calculator : None Response Time : N.A Think Time : N.A Minimum Instruction Time : 0

Correct Marks : 5 Wrong Marks : 1

Question Key Details :

Key	Value
Comprehension	MCQ

95% க்கும் அதிகமான தற்போதுள்ள மரபணு மாற்ற விலங்குகள்:

1. எலி
2. ஆடு
3. முயல்
4. பன்றி

Options :

485584145657. 1

485584145658. 2

485584145659. 3

485584145660. 4

Question Number : 31 Question Id : 48558436416 Question Type : MCQ Option Shuffling : No Is Question Mandatory : No Calculator : None Response Time : N.A Think Time : N.A Minimum Instruction Time : 0

Correct Marks : 5 Wrong Marks : 1

Question Key Details :

Key	Value
Comprehension	MCQ

A novel strategy to prevent infestation of roots of tobacco plant with the nematode *Meloidogyme incognitia* is :

1. DNA interference
2. DNA-RNA interference
3. RNA interference
4. RNA-Protein interference

Options :

485584145661. 1

485584145662. 2

485584145663. 3

485584145664. 4

Question Number : 31 Question Id : 48558436416 Question Type : MCQ Option Shuffling : No Is Question Mandatory : No Calculator : None Response Time : N.A Think Time : N.A Minimum Instruction Time : 0

Correct Marks : 5 Wrong Marks : 1

Question Key Details :

Key	Value
Comprehension	MCQ

நூற்புழு மேலோய்டோஜின் இன்காக்னிடோ கொண்ட புகையிலை தாவர வேர்களில் தொற்றுநோய் ஏற்படாமல் தடுக்க உதவும் புதிய உத்தி:

1. DNA குறுக்கீடு
2. DNA-RNA குறுக்கீடு
3. RNA குறுக்கீடு
4. RNA-பரத குறுக்கீடு

Options :

485584145661. 1

485584145662. 2

485584145663. 3

485584145664. 4

Question Number : 32 Question Id : 48558436417 Question Type : MCQ Option Shuffling : No Is Question Mandatory : No Calculator : None Response Time : N.A Think Time : N.A Minimum Instruction Time : 0

Correct Marks : 5 Wrong Marks : 1

Question Key Details :

Key	Value
Comprehension	MCQ

Match List I with List II

LIST I		LIST II	
A.	<i>Bacillus thuringiensis</i>	I.	Synthetic Human Insulin
B.	<i>Agrobacterium</i>	II.	ADA gene therapy
C.	<i>E. Coli</i>	III.	Cry gene
D.	Retroviral Vector	IV.	Vector carrying nematode-specific genes

Choose the correct answer from the options given below:

1. A-III, B-IV, C-I, D-II
2. A-II, B-I, C-III, D-IV
3. A-I, B-III, C-IV, D-II
4. A-IV, B-II, C-I, D-III

Options :

485584145665. 1
485584145666. 2
485584145667. 3
485584145668. 4

Question Number : 32 Question Id : 48558436417 Question Type : MCQ Option Shuffling : No Is Question Mandatory : No Calculator : None Response Time : N.A Think Time : N.A Minimum Instruction Time : 0

Correct Marks : 5 Wrong Marks : 1

Question Key Details :

Key	Value
Comprehension	MCQ

பட்டியல் I ஐ பட்டியல் II உடன் பொருத்துக

பட்டியல் I		பட்டியல் II	
A.	பேசில்லஸ் குரிஞ்சியன்சிஸ்	I.	செயற்கை மனித இன்கலின்
B.	அக்ரோபாக்டீரியம்	II.	ADA மரபணு சிசிச்சை
C.	E. கோலி	III.	அழகை மரபணு
D.	ரெட்ரோவைரஸ் வெக்டர்	IV.	தூற்புழு - குறிப்பிட்ட மரபணுவை சுமந்து செல்லும் வெக்டர்

கீழே தரப்பட்டுள்ள வாய்ப்புகளில் இருந்து சரியான விடையைத் தேர்ந்தெடுக்கவும்:

1. A-III, B-IV, C-I, D-II
2. A-II, B-I, C-III, D-IV
3. A-I, B-III, C-IV, D-II
4. A-IV, B-II, C-I, D-III

Options :

485584145665. 1
485584145666. 2
485584145667. 3
485584145668. 4

Question Number : 33 Question Id : 48558436418 Question Type : MCQ Option Shuffling : No Is Question Mandatory : No Calculator : None Response Time : N.A Think Time : N.A Minimum Instruction Time : 0

Correct Marks : 5 Wrong Marks : 1

Question Key Details :

Key	Value
Comprehension	MCQ

Identify the commensalism from the following associations:

1. Fungi and roots of higher plants.
2. Cuckoo and crow during breeding season
3. Fig species and wasp
4. Sea anemone and clown fish

Options :

485584145669. 1
485584145670. 2
485584145671. 3
485584145672. 4

Question Number : 33 Question Id : 48558436418 Question Type : MCQ Option Shuffling : No Is Question Mandatory : No Calculator : None Response Time : N.A Think Time : N.A Minimum Instruction Time : 0

Correct Marks : 5 Wrong Marks : 1

Question Key Details :

Key	Value
Comprehension	MCQ

பின்வரும் தொடர்புகளில் இருந்து தொடக்க நிலையைக் கண்டறியவும்:

1. பூஞ்சை மற்றும் உயர்ந்த தாவரங்களின் வேர்
2. இனப்பெருக்க காலத்தில் குக்கூ மற்றும் காக்கை
3. அத்தி வகை மற்றும் குளவி
4. கடல் அனிமோன் மற்றும் குளோன் மீன்

Options :

485584145669. 1
485584145670. 2
485584145671. 3
485584145672. 4

Question Number : 34 Question Id : 48558436419 Question Type : MCQ Option Shuffling : No Is Question Mandatory : No Calculator : None Response Time : N.A Think Time : N.A Minimum Instruction Time : 0

Correct Marks : 5 Wrong Marks : 1

Question Key Details :

Key	Value
Comprehension	MCQ

Select the organisms that can tolerate wide range of temperatures:

1. Eurythermals
2. Stenothermals
3. Conformers
4. Osmoregulators

Options :

485584145673. 1
485584145674. 2
485584145675. 3
485584145676. 4

Question Number : 34 Question Id : 48558436419 Question Type : MCQ Option Shuffling : No Is Question Mandatory : No Calculator : None Response Time : N.A Think Time : N.A Minimum Instruction Time : 0

Correct Marks : 5 Wrong Marks : 1

Question Key Details :

Key	Value
Comprehension	MCQ

பரந்த அளவிலான வெப்பநிலையை தாங்கும் உயிரினத்தைத் தேர்ந்தெடுக்கவும்?

1. யூரிதெர்மல்ஸ்
2. ஸ்டெனோதெர்மல்ஸ்
3. கன்பார்மர்ஸ்
4. ஆஸ்மோர்குலேட்டர்ஸ்

Options :

485584145673. 1
485584145674. 2
485584145675. 3
485584145676. 4

Question Number : 35 Question Id : 48558436420 Question Type : MCQ Option Shuffling : No Is Question Mandatory : No Calculator : None Response Time : N.A Think Time : N.A Minimum Instruction Time : 0

Correct Marks : 5 Wrong Marks : 1

Question Key Details :

Key	Value
Comprehension	MCQ

The rate of decomposition is controlled by:

1. Chemical composition of detritus only
2. Climatic factors only
3. Both chemical composition of detritus and climatic factors
4. Atmospheric pressure

Options :

485584145677. 1
485584145678. 2
485584145679. 3
485584145680. 4

Question Number : 35 Question Id : 48558436420 Question Type : MCQ Option Shuffling : No Is Question Mandatory : No Calculator : None Response Time : N.A Think Time : N.A Minimum Instruction Time : 0

Correct Marks : 5 Wrong Marks : 1

Question Key Details :

Key	Value
Comprehension	MCQ

சுதைய விகிதம் இதன் மூலம் கட்டுப்படுத்தப்படுகிறது:

1. டெட்ரிடஸின் வேதியியல் கலவை மட்டுமே
2. சுற்றுச்சூழல் காரணிகள் மட்டுமே
3. டெட்ரிடஸின் வேதியியல் கலவை மற்றும் சுற்றுச்சூழல் காரணிகள் ஆகிய இரண்டும்
4. வளிமண்டல காரணிகள்

Options :

485584145677. 1
485584145678. 2
485584145679. 3
485584145680. 4

Question Number : 36 Question Id : 48558436421 Question Type : MCQ Option Shuffling : No Is Question Mandatory : No Calculator : None Response Time : N.A Think Time : N.A Minimum Instruction Time : 0

Correct Marks : 5 Wrong Marks : 1

Question Key Details :

Key	Value
Comprehension	MCQ

The Net Primary Productivity (NPP) is :

1. Gross Primary Productivity – Respiration losses
2. Gross Primary Productivity + Respiration losses
3. Gross Primary Productivity × Respiration losses
4. Respiration losses – Gross Primary Productivity

Options :

485584145681. 1
485584145682. 2
485584145683. 3
485584145684. 4

Question Number : 36 Question Id : 48558436421 Question Type : MCQ Option Shuffling : No Is Question Mandatory : No Calculator : None Response Time : N.A Think Time : N.A Minimum Instruction Time : 0

Correct Marks : 5 Wrong Marks : 1

Question Key Details :

Key	Value
Comprehension	MCQ

நிகர முதமை உற்பத்தி (Net Primary Productivity - NPP) என்பது:

1. மொத்த முதன்மை உற்பத்தி - சுவாசம்
2. மொத்த முதன்மை உற்பத்தி + சுவாசம்
3. மொத்த முதன்மை உற்பத்தி \times சுவாசம்
4. சுவாசம் - மொத்த முதன்மை உற்பத்தி

Options :

485584145681. 1
485584145682. 2
485584145683. 3
485584145684. 4

Question Number : 37 Question Id : 48558436422 Question Type : MCQ Option Shuffling : No Is Question Mandatory : No Calculator : None Response Time : N.A Think Time : N.A Minimum Instruction Time : 0

Correct Marks : 5 Wrong Marks : 1

Question Key Details :

Key	Value
Comprehension	MCQ

Which of the following country has the highest biodiversity?

1. Brazil
2. Zimbabwe
3. Russia
4. India

Options :

485584145685. 1
485584145686. 2
485584145687. 3
485584145688. 4

Question Number : 37 Question Id : 48558436422 Question Type : MCQ Option Shuffling : No Is Question Mandatory : No Calculator : None Response Time : N.A Think Time : N.A Minimum Instruction Time : 0

Correct Marks : 5 Wrong Marks : 1

Question Key Details :

Key	Value
Comprehension	MCQ

பின்வரும் நாடுகளில் எது அதிக பல்லுயிரிதன்மை கொண்டுள்ளது?

1. பிரேசில்
2. ஜிம்பாப்வே
3. இரஷ்யா
4. இந்தியா

Options :

485584145685. 1
485584145686. 2
485584145687. 3
485584145688. 4

Question Number : 38 Question Id : 48558436423 Question Type : MCQ Option Shuffling : No Is Question Mandatory : No Calculator : None Response Time : N.A Think Time : N.A Minimum Instruction Time : 0

Correct Marks : 5 Wrong Marks : 1

Question Key Details :

Key	Value
Comprehension	MCQ

Which of the following species has become extinct due to over exploitation by humans?

1. *Clarias gariepinus*
2. Stellers's sea cow
3. *Lantana*
4. *Parthenium*

Options :

485584145689. 1
485584145690. 2
485584145691. 3
485584145692. 4

Question Number : 38 Question Id : 48558436423 Question Type : MCQ Option Shuffling : No Is Question Mandatory : No Calculator : None Response Time : N.A Think Time : N.A Minimum Instruction Time : 0

Correct Marks : 5 Wrong Marks : 1

Question Key Details :

Key	Value
Comprehension	MCQ

பின்வருவனவற்றுள் எது மனிதனின் அதிக சுரண்டல் காரணமாக அழிந்து வருகிறது?

1. கிளாரியஸ் கேரிபினஸ்
2. ஸ்டெல்லர்ஸ் கடல் பசு
3. லாந்தனா
4. பார்த்தீனியம்

Options :

485584145689. 1
485584145690. 2
485584145691. 3
485584145692. 4

Question Number : 39 Question Id : 48558436424 Question Type : MCQ Option Shuffling : No Is Question Mandatory : No Calculator : None Response Time : N.A Think Time : N.A Minimum Instruction Time : 0

Correct Marks : 5 Wrong Marks : 1

Question Key Details :

Key	Value
Comprehension	MCQ

Salts are drawn to the surface of the soil by:

1. Over cultivation
2. Deforestation
3. Water logging
4. Unrestricted grazing

Options :

485584145693. 1
485584145694. 2
485584145695. 3
485584145696. 4

Question Number : 39 Question Id : 48558436424 Question Type : MCQ Option Shuffling : No Is Question Mandatory : No Calculator : None Response Time : N.A Think Time : N.A Minimum Instruction Time : 0

Correct Marks : 5 Wrong Marks : 1

Question Key Details :

Key	Value
Comprehension	MCQ

_____ மூலம் உப்புக்கள் மண்ணின் மேற்பகுதிக்கு கொண்டுவரப்படுகிறது

1. அதிக சாகுபடி
2. காடுகள் அழிப்பு
3. நீர் தேக்கம்
4. தடையற்ற மேய்ச்சல்

Options :

485584145693. 1
485584145694. 2
485584145695. 3
485584145696. 4

Question Number : 40 Question Id : 48558436425 Question Type : MCQ Option Shuffling : No Is Question Mandatory : No Calculator : None Response Time : N.A Think Time : N.A Minimum Instruction Time : 0

Correct Marks : 5 Wrong Marks : 1

Question Key Details :

Key	Value
Comprehension	MCQ

World's most problematic aquatic weed is:

1. Free floating algae
2. *Vallisneria*
3. *Eichhornia crassipes*
4. *Chara*

Options :

485584145697. 1
485584145698. 2
485584145699. 3
485584145700. 4

Question Number : 40 Question Id : 48558436425 Question Type : MCQ Option Shuffling : No Is Question Mandatory : No Calculator : None Response Time : N.A Think Time : N.A Minimum Instruction Time : 0

Correct Marks : 5 Wrong Marks : 1

Question Key Details :

Key	Value
Comprehension	MCQ

உலகின் மிகவும் பிரச்சனைக்குரிய நீர்வாழ் களை என்பது:

1. மிதக்கும் பாசி
2. வால்லிஸ்னேரியா
3. எக்கொர்னியா கிராஸ்பிஸ்
4. சாரா

Options :

485584145697. 1
485584145698. 2
485584145699. 3
485584145700. 4

Sub-Section Number : 2
Sub-Section Id : 4855842691
Question Shuffling Allowed : No
Is Section Default? : null

Question Number : 41 Question Id : 48558436426 Question Type : MCQ Option Shuffling : No Is Question Mandatory : No Calculator : None Response Time : N.A Think Time : N.A Minimum Instruction Time : 0

Correct Marks : 5 Wrong Marks : 1

Question Key Details :

Key	Value
Comprehension	Comp1

Read the given paragraph and answer the question:

Humans have 23 pairs of chromosomes. 22 pairs are exactly same in both males and females; these are the autosomes. A pair of X-chromosome are present in the female, whereas the presence of an X and Y chromosome are determinant of the male characteristic.

A number of disorders in human beings have been found to be associated with the inheritance of changed or altered genes or chromosomes. Broadly, genetic disorder may be grouped into two categories-Mendelian disorders and Chromosomal disorders.

What is the probability of having a daughter to a couple expecting their first child?

1. Nil
2. 25%
3. 50%
4. 100%

Options :

485584145701. 1
485584145702. 2
485584145703. 3

Question Number : 41 Question Id : 48558436426 Question Type : MCQ Option Shuffling : No Is Question Mandatory : No Calculator : None Response Time : N.A Think Time : N.A Minimum Instruction Time : 0

Correct Marks : 5 Wrong Marks : 1

Question Key Details :

Key	Value
Comprehension	Comp1

பின்வரும் பத்தியைக் கவனமாகப் படித்து கொடுக்கப்பட்டுள்ள கேள்விகளுக்கு பதிலளிக்கவும் (கே. 41-45)

மனிதர்களில் 23 ஜோடி குரோமோசோம்கள் உள்ளன. 22 ஜோடிகள் ஆண்கள் மற்றும் பெண்களில் ஒரே மாதிரியானவை; இவை ஆட்டோசோம்கள் எனப்படும். ஒரு ஜோடி X-குரோமோசோம் பெண்களில் காணப்படுகிறது, அதேபோல் X மற்றும் Y குரோமோசோம்கள் ஆண் பண்புகளைத் தீர்மானிக்க உதவுகிறது.

மாறிய அல்லது மாற்றப்பட்ட மரபணு அல்லது குரோமோசோம்களின் மரபுவழியுடன் தொடர்புடைய பல குறைபாடுகள் மனிதர்களில் கண்டறியப்பட்டுள்ளது. பரவலாக, மரபணு குறைபாடு இரு வகைகளாகப் பிரிக்கப்படும்-மெண்டலின் குறைப்பாடு மற்றும் குரோமோசோமல்/குரோமோசோம் குறைபாடு.

தங்கள் முதல் குழந்தையை எதிர்பார்க்கும் தம்பதிக்கு பெண் குழந்தை பிறப்பதற்கான நிகழ்தகவு என்ன?

1. இல்லை
2. 25%
3. 50%
4. 100%

Options :

485584145701. 1
485584145702. 2
485584145703. 3
485584145704. 4

Question Number : 42 Question Id : 48558436427 Question Type : MCQ Option Shuffling : No Is Question Mandatory : No Calculator : None Response Time : N.A Think Time : N.A Minimum Instruction Time : 0

Correct Marks : 5 Wrong Marks : 1

Question Key Details :

Key	Value
Comprehension	Comp1

Read the given paragraph and answer the question:

Humans have 23 pairs of chromosomes. 22 pairs are exactly same in both males and females; these are the autosomes. A pair of X-chromosome are present in the female, whereas the presence of an X and Y chromosome are determinant of the male characteristic.

A number of disorders in human beings have been found to be associated with the inheritance of changed or altered genes or chromosomes. Broadly, genetic disorder may be grouped into two categories-Mendelian disorders and Chromosomal disorders.

A disorder caused due to absence of one of the 'X' chromosome is -

1. Turner's Syndrome
2. Down's Syndrome
3. Klinefelter's Syndrome
4. Thalassemia

Options :

485584145705. 1
485584145706. 2
485584145707. 3
485584145708. 4

Question Number : 42 Question Id : 48558436427 Question Type : MCQ Option Shuffling : No Is Question Mandatory : No Calculator : None Response Time : N.A Think Time : N.A Minimum Instruction Time : 0

Correct Marks : 5 Wrong Marks : 1

Question Key Details :

Key	Value
Comprehension	Comp1

பின்வரும் பத்தியைக் கவனமாகப் படித்து கொடுக்கப்பட்டுள்ள கேள்விகளுக்கு பதிலளிக்கவும் (கே. 41-45)

மனிதர்களில் 23 ஜோடி குரோமோசோம்கள் உள்ளன. 22 ஜோடிகள் ஆண்கள் மற்றும் பெண்களில் ஒரே மாதிரியானவை; இவை ஆட்டோசோம்கள் எனப்படும். ஒரு ஜோடி X-குரோமோசோம் பெண்களில் காணப்படுகிறது, அதேபோல் X மற்றும் Y குரோமோசோம்கள் ஆண் பண்புகளைத் தீர்மானிக்க உதவுகிறது.

மாறிய அல்லது மாற்றப்பட்ட மரபணு அல்லது குரோமோசோம்களின் மரபுவழியுடன் தொடர்புடைய பல குறைபாடுகள் மனிதர்களில் கண்டறியப்பட்டுள்ளது. பரவலாக, மரபணு குறைபாடு இரு வகைகளாகப் பிரிக்கப்படும்-மெண்டலின் குறைப்பாடு மற்றும் குரோமோசோமல்/குரோமோசோம் குறைபாடு.

ஒரு 'X' குரோமோசோம் இல்லாமல் இருப்பதால் ஏற்படும் குறைபாடு -

1. டர்னரின் குறைபாடு
2. டவுன் குறைபாடு
3. கிளைன்பெல்டர் குறைபாடு
4. தலசீமியா

Options :

485584145705. 1
485584145706. 2
485584145707. 3
485584145708. 4

Question Number : 43 Question Id : 48558436428 Question Type : MCQ Option Shuffling : No Is Question Mandatory : No Calculator : None Response Time : N.A Think Time : N.A Minimum Instruction Time : 0

Correct Marks : 5 Wrong Marks : 1

Question Key Details :

Key	Value
Comprehension	Comp1

Read the given paragraph and answer the question:

Humans have 23 pairs of chromosomes. 22 pairs are exactly same in both males and females; these are the autosomes. A pair of X-chromosome are present in the female, whereas the presence of an X and Y chromosome are determinant of the male characteristic.

A number of disorders in human beings have been found to be associated with the inheritance of changed or altered genes or chromosomes. Broadly, genetic disorder may be grouped into two categories-Mendelian disorders and Chromosomal disorders.

A haemophilic man marries a normal woman. What is the possibility that their child have haemophilia?

1. 75%
2. 25%
3. 0%
4. 50%

Options :

485584145709. 1
485584145710. 2
485584145711. 3
485584145712. 4

Question Number : 43 Question Id : 48558436428 Question Type : MCQ Option Shuffling : No Is Question Mandatory : No Calculator : None Response Time : N.A Think Time : N.A Minimum Instruction Time : 0

Correct Marks : 5 Wrong Marks : 1

Question Key Details :

Key	Value
Comprehension	Comp1

பின்வரும் பத்தியைக் கவனமாகப் படித்து கொடுக்கப்பட்டுள்ள கேள்விகளுக்கு பதிலளிக்கவும் (கே. 41-45)

மனிதர்களில் 23 ஜோடி குரோமோசோம்கள் உள்ளன. 22 ஜோடிகள் ஆண்கள் மற்றும் பெண்களில் ஒரே மாதிரியானவை; இவை ஆட்டோசோம்கள் எனப்படும். ஒரு ஜோடி X-குரோமோசோம் பெண்களில் காணப்படுகிறது, அதேபோல் X மற்றும் Y குரோமோசோம்கள் ஆண் பண்புகளைத் தீர்மானிக்க உதவுகிறது.

மாறிய அல்லது மாற்றப்பட்ட மரபணு அல்லது குரோமோசோம்களின் மரபுவழியுடன் தொடர்புடைய பல குறைபாடுகள் மனிதர்களில் கண்டறியப்பட்டுள்ளது. பரவலாக, மரபணு குறைபாடு இரு வகைகளாகப் பிரிக்கப்படும்-மெண்டலின் குறைப்பாடு மற்றும் குரோமோசோமல்/குரோமோசோம் குறைபாடு.

ஹீமொபிலிக் கொண்ட மனிதர் சாதாரண பெண்ணை மணக்கிறார். அவர்களுக்கு ஹீமோபிலியா உள்ள குழந்தை பிறப்பதற்கான சாத்தியக் கூறு என்ன?

1. 75%
2. 25%
3. 0%
4. 50%

Options :

485584145709. 1
485584145710. 2
485584145711. 3
485584145712. 4

Question Number : 44 Question Id : 48558436429 Question Type : MCQ Option Shuffling : No Is Question Mandatory : No Calculator : None Response Time : N.A Think Time : N.A Minimum Instruction Time : 0

Correct Marks : 5 Wrong Marks : 1

Question Key Details :

Key	Value
Comprehension	Comp1

Read the given paragraph and answer the question:

Humans have 23 pairs of chromosomes. 22 pairs are exactly same in both males and females; these are the autosomes. A pair of X-chromosome are present in the female, whereas the presence of an X and Y chromosome are determinant of the male characteristic.

A number of disorders in human beings have been found to be associated with the inheritance of changed or altered genes or chromosomes. Broadly, genetic disorder may be grouped into two categories-Mendelian disorders and Chromosomal disorders.

Which of the following is an example of a sex linked disease?

1. Ascariasis
2. Colour blindness
3. Thalassemia
4. Phenylketonuria

Options :

485584145713. 1
485584145714. 2
485584145715. 3
485584145716. 4

Question Number : 44 Question Id : 48558436429 Question Type : MCQ Option Shuffling : No Is Question Mandatory : No Calculator : None Response Time : N.A Think Time : N.A Minimum Instruction Time : 0

Correct Marks : 5 Wrong Marks : 1

Question Key Details :

Key	Value
Comprehension	Comp1

பின்வரும் பத்தியைக் கவனமாகப் படித்து கொடுக்கப்பட்டுள்ள கேள்விகளுக்கு பதிலளிக்கவும் (கே. 41-45)

மனிதர்களில் 23 ஜோடி குரோமோசோம்கள் உள்ளன. 22 ஜோடிகள் ஆண்கள் மற்றும் பெண்களில் ஒரே மாதிரியானவை; இவை ஆட்டோசோம்கள் எனப்படும். ஒரு ஜோடி X-குரோமோசோம் பெண்களில் காணப்படுகிறது, அதேபோல் X மற்றும் Y குரோமோசோம்கள் ஆண் பண்புகளைத் தீர்மானிக்க உதவுகிறது.

மாறிய அல்லது மாற்றப்பட்ட மரபணு அல்லது குரோமோசோம்களின் மரபுவழியுடன் தொடர்புடைய பல குறைபாடுகள் மனிதர்களில் கண்டறியப்பட்டுள்ளது. பரவலாக, மரபணு குறைபாடு இரு வகைகளாகப் பிரிக்கப்படும்-மெண்டலின் குறைப்பாடு மற்றும் குரோமோசோமல்/குரோமோசோம் குறைபாடு.

பின்வருவனவற்றுள் எது பால் சார்ந்த நோய்க்கான ஒரு உதாரணம்?

1. அஸ்காரியாசிஸ்
2. நிறக் குருடு
3. தலசீமியா
4. பீனைல்ஃடோனூரியா

Options :

485584145713. 1
485584145714. 2
485584145715. 3
485584145716. 4

Question Number : 45 Question Id : 48558436430 Question Type : MCQ Option Shuffling : No Is Question Mandatory : No Calculator : None Response Time : N.A Think Time : N.A Minimum Instruction Time : 0

Correct Marks : 5 Wrong Marks : 1

Question Key Details :

Key	Value
Comprehension	Comp1

Read the given paragraph and answer the question:

Humans have 23 pairs of chromosomes. 22 pairs are exactly same in both males and females; these are the autosomes. A pair of X-chromosome are present in the female, whereas the presence of an X and Y chromosome are determinant of the male characteristic.

A number of disorders in human beings have been found to be associated with the inheritance of changed or altered genes or chromosomes. Broadly, genetic disorder may be grouped into two categories-Mendelian disorders and Chromosomal disorders.

A colour blind man marries a carrier woman. Choose the possible progeny outcome.

1. All sons are born colourblind, while 50% the daughter born will be normal.
2. All children (sons and daughters) are born colour blind.
3. All daughters are normal whereas 50% of the sons born will be colour blind.
4. 50% of daughters and 50% of sons born will be colour blind.

Options :

485584145717. 1
485584145718. 2
485584145719. 3
485584145720. 4

Question Number : 45 Question Id : 48558436430 Question Type : MCQ Option Shuffling : No Is Question Mandatory : No Calculator : None Response Time : N.A Think Time : N.A Minimum Instruction Time : 0

Correct Marks : 5 Wrong Marks : 1

Question Key Details :

Key	Value
Comprehension	Comp1

பின்வரும் பத்தியைக் கவனமாகப் படித்து கொடுக்கப்பட்டுள்ள கேள்விகளுக்கு பதிலளிக்கவும் (கே. 41-45)

மனிதர்களில் 23 ஜோடி குரோமோசோம்கள் உள்ளன. 22 ஜோடிகள் ஆண்கள் மற்றும் பெண்களில் ஒரே மாதிரியானவை; இவை ஆட்டோசோம்கள் எனப்படும். ஒரு ஜோடி X-குரோமோசோம் பெண்களில் காணப்படுகிறது, அதேபோல் X மற்றும் Y குரோமோசோம்கள் ஆண் பண்புகளைத் தீர்மானிக்க உதவுகிறது.

மாறிய அல்லது மாற்றப்பட்ட மரபணு அல்லது குரோமோசோம்களின் மரபுவழியுடன் தொடர்புடைய பல குறைபாடுகள் மனிதர்களில் கண்டறியப்பட்டுள்ளது. பரவலாக, மரபணு குறைபாடு இரு வகைகளாகப் பிரிக்கப்படும்-மெண்டலின் குறைப்பாடு மற்றும் குரோமோசோமல்/குரோமோசோம் குறைபாடு.

நிறக்குருடு குறைபாடு கொண்ட மனிதர் ஒரு கேரியர் பெண்ணை திருமணம் செய்து கொள்கிறார். அவர்களின் சந்ததி வெளிப்பாட்டை தேர்ந்தெடுக்கவும்.

1. அவர்களுக்கு மகன்கள் அனைவரும் நிறக்குருடு குறைபாட்டுடன் பிறப்பார்கள், அதேசமயம் 50% மகன்கள் இயல்பாக பிறப்பார்கள்
2. அனைத்து குழந்தைகளும் (மகன்கள் மற்றும் மகள்கள்) நிறக்குருடு குறைப்பாட்டுடன் பிறப்பார்கள்
3. அனைத்து மகள்களும் இயல்பாகவும் 50% மகன்கள் நிறக்குருடு குறைப்பாட்டுடனும் பிறப்பார்கள்
4. 50% மகள்கள் மற்றும் 50% மகன்கள் நிறக்குருடு குறைப்பாட்டுடன் பிறப்பார்கள்

Options :

485584145717. 1

485584145718. 2

485584145719. 3

485584145720. 4

Sub-Section Number :

3

Sub-Section Id :

4855842692

Question Shuffling Allowed :

No

Is Section Default? :

null

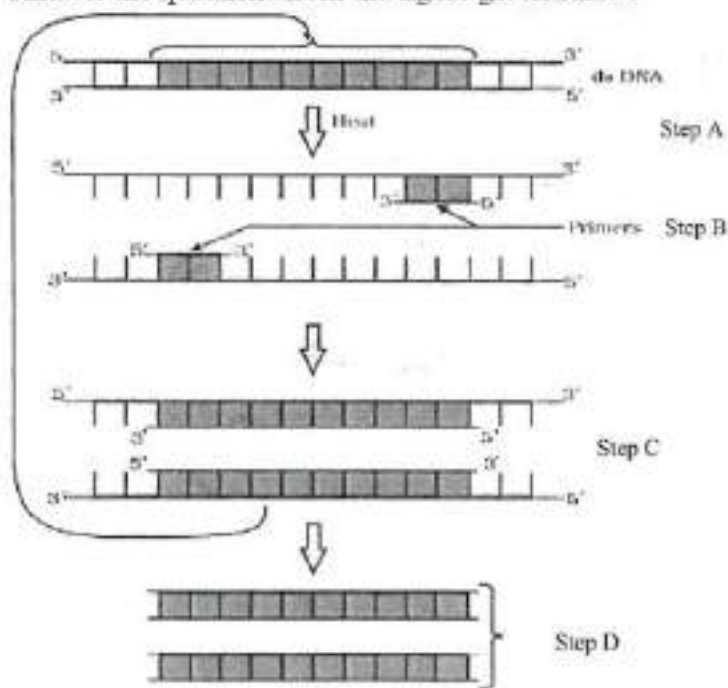
Question Number : 46 Question Id : 48558436431 Question Type : MCQ Option Shuffling : No Is Question Mandatory : No Calculator : None Response Time : N.A Think Time : N.A Minimum Instruction Time : 0

Correct Marks : 5 Wrong Marks : 1

Question Key Details :

Key	Value
Comprehension	Comp2

Answer the questions from the figure given below:



If the reaction starts with one molecule of DNA, the number of cycles required to produce one billion amplified products is:

1. 8 cycles
2. 16 cycles
3. 30 cycles
4. 25 cycles

Options :

- 485584145721. 1
- 485584145722. 2
- 485584145723. 3
- 485584145724. 4

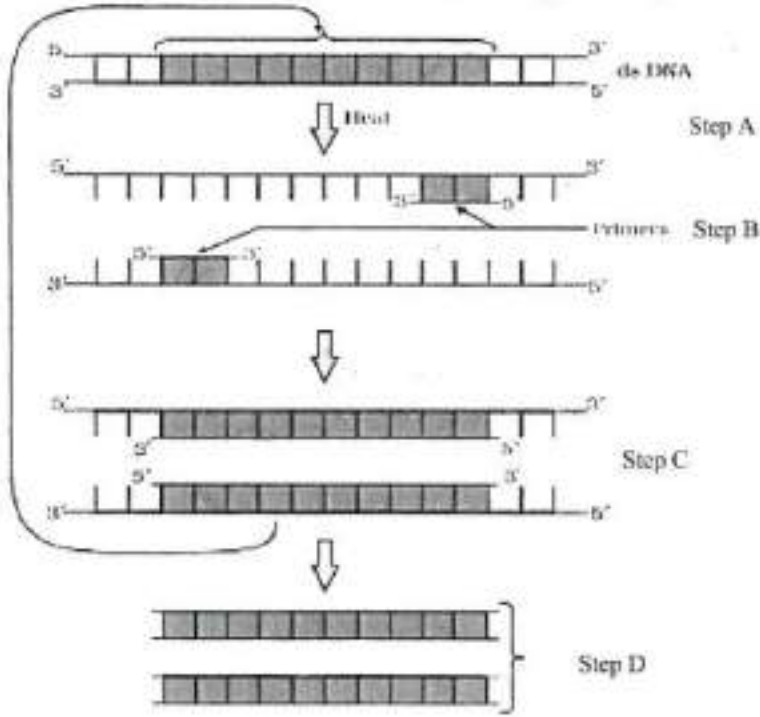
Question Number : 46 Question Id : 48558436431 Question Type : MCQ Option Shuffling : No Is Question Mandatory : No Calculator : None Response Time : N.A Think Time : N.A Minimum Instruction Time : 0

Correct Marks : 5 Wrong Marks : 1

Question Key Details :

Key	Value
Comprehension	Comp2

கீழே கொடுக்கப்பட்டுள்ள படத்தைக் கவனமாக பார்த்து பின்வரும் கேள்விகளுக்கு பதிலளிக்கவும்(கே. 46-50):



1 DNA எண்ணிக்கையில் வினை தொடங்கினால், உற்பத்தியை 1 பில்லியன் பெருக்க / உருவாக்கவேவைப்படும் சுழற்சிகளின் எண்ணிக்கை:

1. 8 சுழற்சிகள்
2. 16 சுழற்சிகள்
3. 30 சுழற்சிகள்
4. 25 சுழற்சிகள்

Options :

- 485584145721. 1
- 485584145722. 2
- 485584145723. 3
- 485584145724. 4

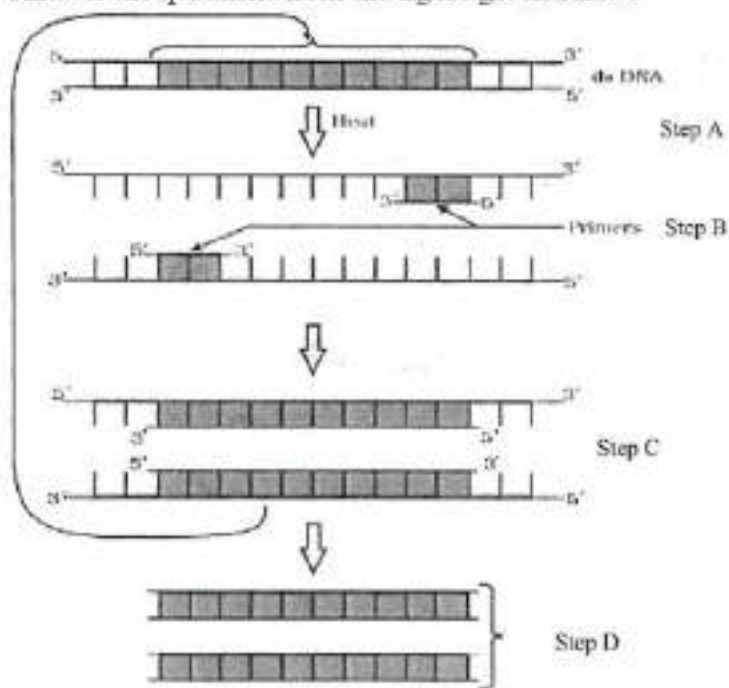
Question Number : 47 Question Id : 48558436432 Question Type : MCQ Option Shuffling : No Is Question Mandatory : No Calculator : None Response Time : N.A Think Time : N.A Minimum Instruction Time : 0

Correct Marks : 5 Wrong Marks : 1

Question Key Details :

Key	Value
Comprehension	Comp2

Answer the questions from the figure given below:



'Taq' in *Taq* polymerase stands for:

1. *Thermal aqua*
2. *Thermal aquaticus*
3. *Thermas aqua*
4. *Thermus aquaticus*

Options :

- 485584145725. 1
- 485584145726. 2
- 485584145727. 3
- 485584145728. 4

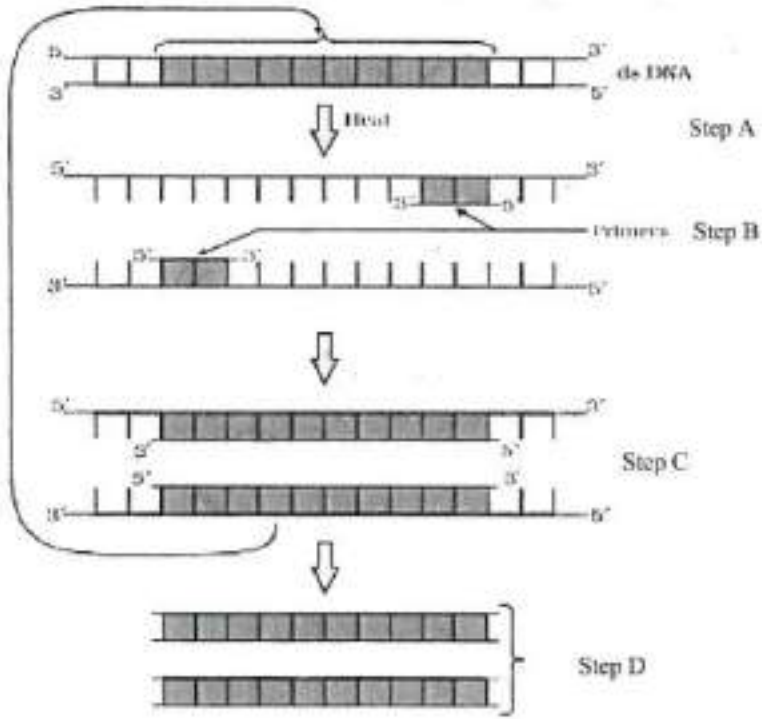
Question Number : 47 Question Id : 48558436432 Question Type : MCQ Option Shuffling : No Is Question Mandatory : No Calculator : None Response Time : N.A Think Time : N.A Minimum Instruction Time : 0

Correct Marks : 5 Wrong Marks : 1

Question Key Details :

Key	Value
Comprehension	Comp2

கீழே கொடுக்கப்பட்டுள்ள படத்தைக் கவனமாக பார்த்து பின்வரும் கேள்விகளுக்கு பதிலளிக்கவும்(கே. 46-50):



Taq polymerase (Lக் பாஸிமரேசில்) 'Taq' என்பதன் விரிவாக்கம்:

1. *Thermal aqua*
2. *Thermal aquaticus*
3. *Thermas aqua*
4. *Thermus aquaticus*

Options :

- 485584145725. 1
- 485584145726. 2
- 485584145727. 3
- 485584145728. 4

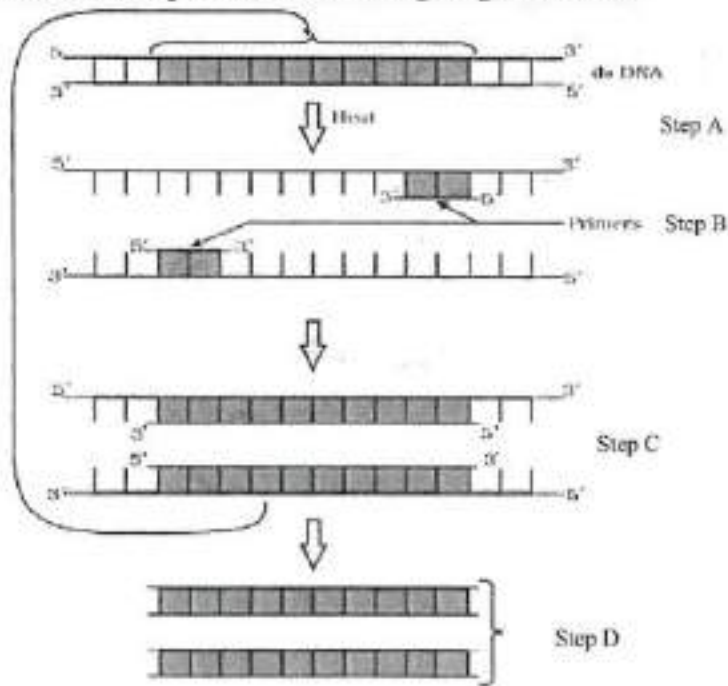
Question Number : 48 Question Id : 48558436433 Question Type : MCQ Option Shuffling : No Is Question Mandatory : No Calculator : None Response Time : N.A Think Time : N.A Minimum Instruction Time : 0

Correct Marks : 5 Wrong Marks : 1

Question Key Details :

Key	Value
Comprehension	Comp2

Answer the questions from the figure given below:



Taq polymerase is the preferred DNA polymerase in PCR because :

1. It is obtained from a fast breeding bacterium.
2. It can bind with the primers efficiently.
3. It remains active during high temperature.
4. It has high turnover rate.

Options :

485584145729. 1

485584145730. 2

485584145731. 3

485584145732. 4

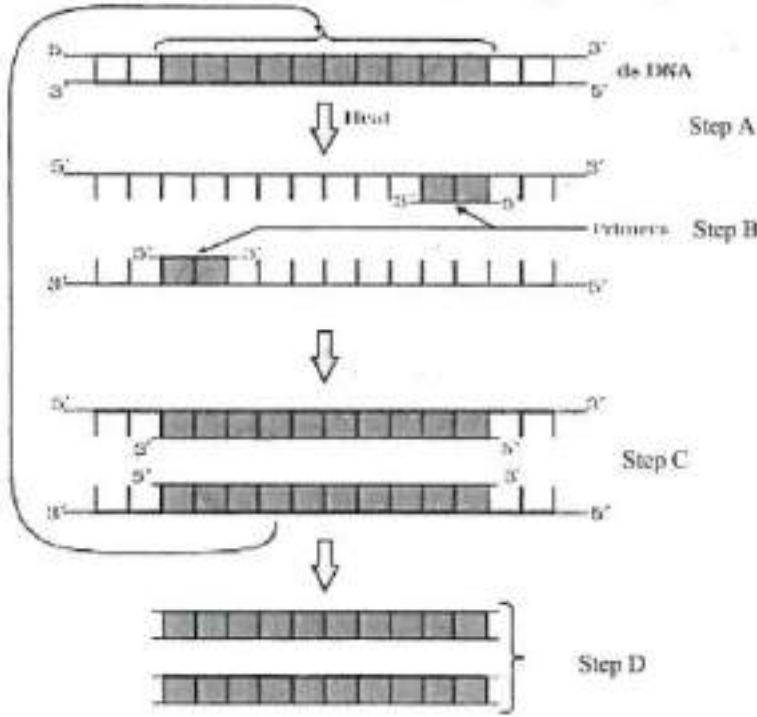
Question Number : 48 Question Id : 48558436433 Question Type : MCQ Option Shuffling : No Is Question Mandatory : No Calculator : None Response Time : N.A Think Time : N.A Minimum Instruction Time : 0

Correct Marks : 5 Wrong Marks : 1

Question Key Details :

Key	Value
Comprehension	Comp2

கீழே கொடுக்கப்பட்டுள்ள படத்தைக் கவனமாக பார்த்து பின்வரும் கேள்விகளுக்கு பதிலளிக்கவும்(கே. 46-50):



PCR இல் டக் பாலிமரேஸ் (*Taq polymerase*) விரும்பத்தக்க DNA பாலிமரேஸ் ஏனெனில்:

1. இது துரித இனப்பெருக்க பாக்டீரியாவில் இருந்து பெறப்படுகிறது
2. பிரைமர்களுடன் உறுதியாக பிணையும்
3. உயர் வெப்பநிலைகளில் செயலில் உள்ளது
4. அதிக டர்ன்ஓவர் விகிதத்தைக் கொண்டுள்ளது

Options :

- 485584145729. 1
- 485584145730. 2
- 485584145731. 3
- 485584145732. 4

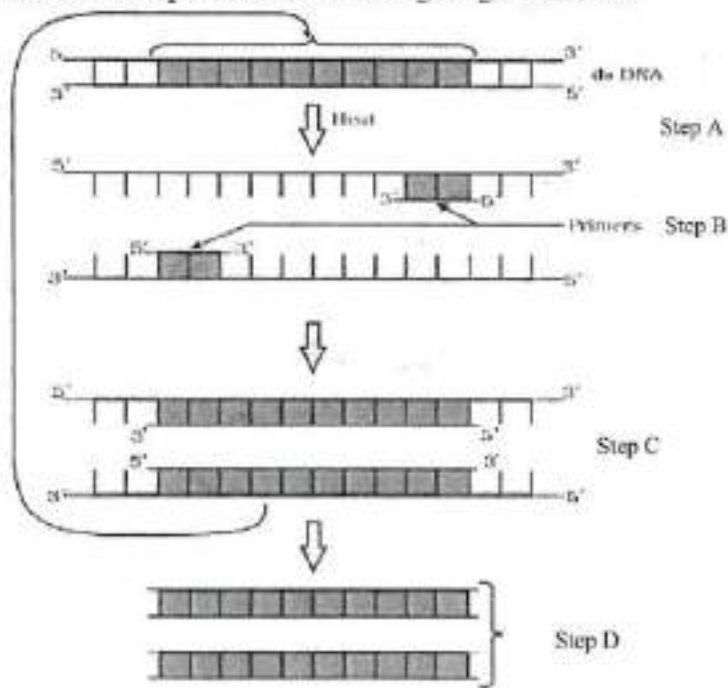
Question Number : 49 Question Id : 48558436434 Question Type : MCQ Option Shuffling : No Is Question Mandatory : No Calculator : None Response Time : N.A Think Time : N.A Minimum Instruction Time : 0

Correct Marks : 5 Wrong Marks : 1

Question Key Details :

Key	Value
Comprehension	Comp2

Answer the questions from the figure given below:



The step 'D' in the figure depicts:

1. Region where the restriction enzyme cuts.
2. An important gene of interest
3. Primer joining region
4. Only amplified product

Options :

485584145733. 1

485584145734. 2

485584145735. 3

485584145736. 4

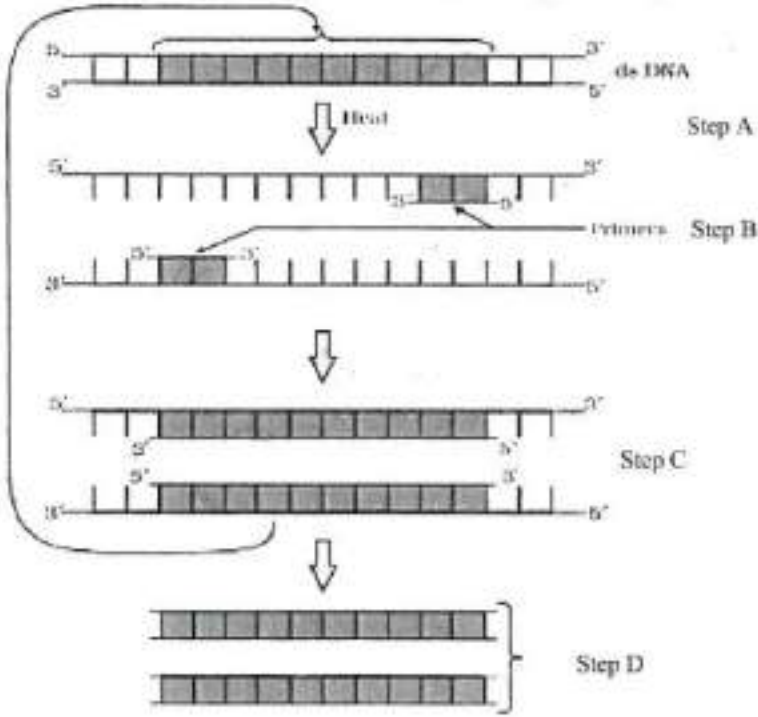
Question Number : 49 Question Id : 48558436434 Question Type : MCQ Option Shuffling : No Is Question Mandatory : No Calculator : None Response Time : N.A Think Time : N.A Minimum Instruction Time : 0

Correct Marks : 5 Wrong Marks : 1

Question Key Details :

Key	Value
Comprehension	Comp2

கீழே கொடுக்கப்பட்டுள்ள படத்தைக் கவனமாக பார்த்து பின்வரும் கேள்விகளுக்கு பதிலளிக்கவும்(கே. 46-50):



படத்தில் உள்ள படி 'D' எதை சித்தரிக்கிறது:

1. கட்டுப்படுத்தும் நொதி வெட்டும் பகுதி
2. ஆர்வமுள்ள முக்கிய மரபணு
3. பிரைமர் இணையும் பகுதி
4. பெருக்கப்பட்ட தயாரிப்பு மட்டுமே

Options :

- 485584145733. 1
- 485584145734. 2
- 485584145735. 3
- 485584145736. 4

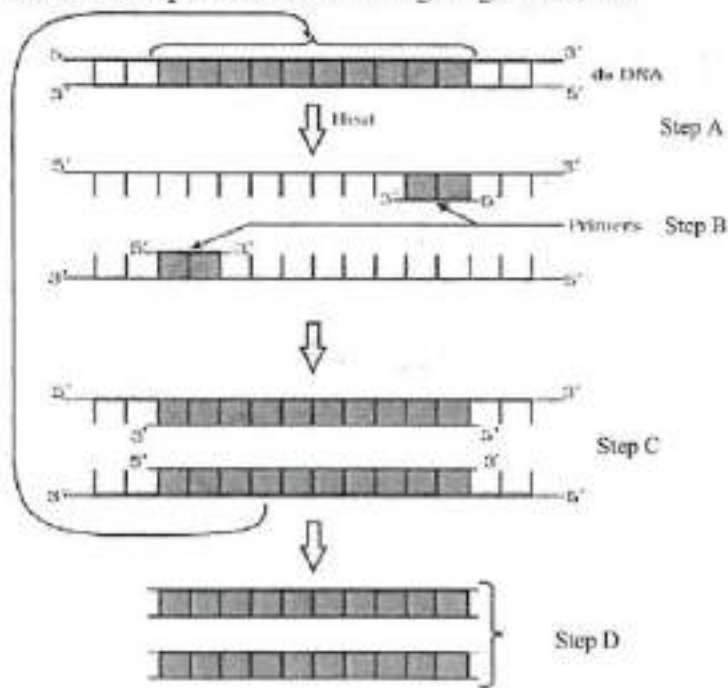
Question Number : 50 Question Id : 48558436435 Question Type : MCQ Option Shuffling : No Is Question Mandatory : No Calculator : None Response Time : N.A Think Time : N.A Minimum Instruction Time : 0

Correct Marks : 5 Wrong Marks : 1

Question Key Details :

Key	Value
Comprehension	Comp2

Answer the questions from the figure given below:



The step 'B' in the figure is called as:

1. Termination
2. Extension
3. Annealing
4. Reannealing

Options :

485584145737. 1
 485584145738. 2
 485584145739. 3
 485584145740. 4

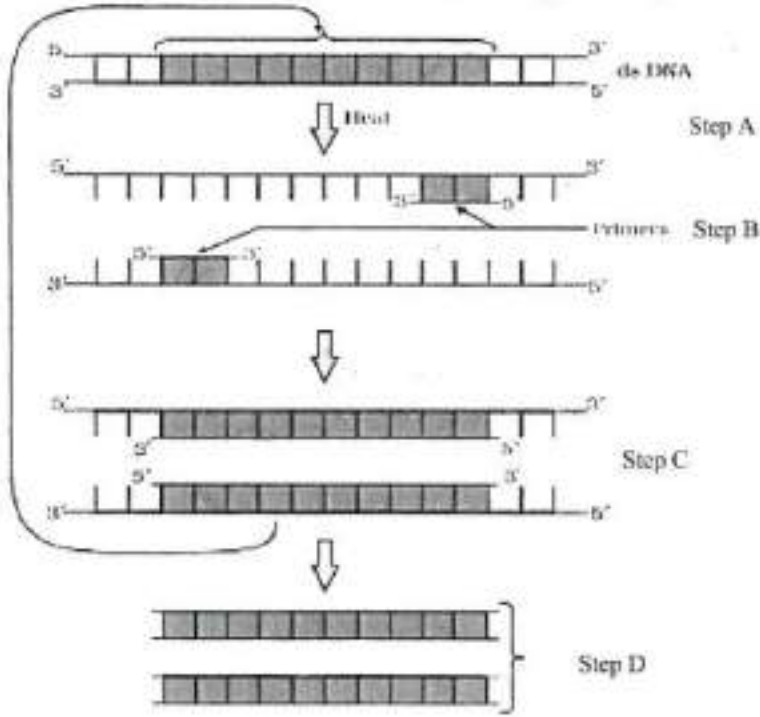
Question Number : 50 Question Id : 48558436435 Question Type : MCQ Option Shuffling : No Is Question Mandatory : No Calculator : None Response Time : N.A Think Time : N.A Minimum Instruction Time : 0

Correct Marks : 5 Wrong Marks : 1

Question Key Details :

Key	Value
Comprehension	Comp2

கீழே கொடுக்கப்பட்டுள்ள படத்தைக் கவனமாக பார்த்து பின்வரும் கேள்விகளுக்கு பதிலளிக்கவும்(கே. 46-50):



படத்தில் உள்ள படி 'B' இவ்வாறு அழைக்கப்படுகிறது:

1. துண்டித்தல்
2. நீட்டித்தல்
3. காய்ச்சி குளிர வைத்தல்
4. மீள் பதனாற்றல்

Options :

485584145737. 1
485584145738. 2
485584145739. 3
485584145740. 4

Business Studies

Group Number :	3
Group Id :	485584823
Group Maximum Duration :	45
Group Minimum Duration :	45
Show Attended Group? :	No
Edit Attended Group? :	No
Break time :	0
Group Marks :	200

Is this Group for Examiner? : No
Examiner permission : Cant View
Show Progress Bar? : No

Business Studies

Section Id : 485584947
Section Number : 1
Section type : Online
Mandatory or Optional : Mandatory
Number of Questions : 50
Number of Questions to be attempted : 40
Section Marks : 200
Enable Mark as Answered Mark for Review and Clear Response : Yes
Maximum Instruction Time : 0
Sub-Section Number : 1
Sub-Section Id : 4855842693
Question Shuffling Allowed : Yes
Is Section Default? : null

Question Number : 51 Question Id : 48558436436 Question Type : MCQ Option Shuffling : No Is Question Mandatory : No
No Calculator : None Response Time : N.A Think Time : N.A Minimum Instruction Time : 0

Correct Marks : 5 Wrong Marks : 1

Question Key Details :

Key	Value
Comprehension	MCQ

Which of the following is not an importance of management ?

1. Management is group activity
2. Management creates a dynamic organization
3. Management helps in the development of society
4. Management increases efficiency

Options :

485584145741. 1
485584145742. 2
485584145743. 3
485584145744. 4

Question Number : 51 Question Id : 48558436436 Question Type : MCQ Option Shuffling : No Is Question Mandatory : No
No Calculator : None Response Time : N.A Think Time : N.A Minimum Instruction Time : 0

Correct Marks : 5 Wrong Marks : 1

Question Key Details :

Key	Value
Comprehension	MCQ

கீழ்க்காண்பதில் எது மேலாண்மைக்கு முக்கியமானவை இல்லை?

1. மேலாண்மையில் என்பது குழு செயல்பாடு
2. மேலாண்மை ஆற்றல்மிக்க நிறுவனத்தை உருவாக்குகின்றது
3. மேலாண்மை சமுதாயத்திற்கு உதவுகின்றது
4. மேலாண்மை இறமையை மேம்படுத்துகிறது

Options :

485584145741. 1
485584145742. 2
485584145743. 3
485584145744. 4

Question Number : 52 Question Id : 48558436437 Question Type : MCQ Option Shuffling : No Is Question Mandatory : No Calculator : None Response Time : N.A Think Time : N.A Minimum Instruction Time : 0

Correct Marks : 5 Wrong Marks : 1

Question Key Details :

Key	Value
Comprehension	MCQ

Mc.Donalds, the fast food giant made major changes in its menu to be able to survive in Indian market. Which feature of management is reflected in above case ?

1. Management is an intangible force
2. Management is a dynamic function
3. Management is all pervasive
4. Management is multidimensional

Options :

485584145745. 1
485584145746. 2
485584145747. 3
485584145748. 4

Question Number : 52 Question Id : 48558436437 Question Type : MCQ Option Shuffling : No Is Question Mandatory : No Calculator : None Response Time : N.A Think Time : N.A Minimum Instruction Time : 0

Correct Marks : 5 Wrong Marks : 1

Question Key Details :

Key	Value
Comprehension	MCQ

இந்தியாவில் மெக் டொனால்ட்ஸ், துரித உணவில் மிகப்பெரும் மாற்றத்தை உருவாக்கி இந்திய உணவு சந்தையில் இடம்பிடித்தது. இதில் எந்த மேலாண்மை அம்சங்கள் பிரதிபலிக்கின்றன?

1. மேலாண்மை என்பது உணர்முடியாத உந்துசக்தி
2. மேலாண்மை என்பது ஆற்றல் மற்றும் கருதுவளமிக்க பணி
3. மேலாண்மை என்பது அனைத்திலும் ஊடுருவி பரந்துள்ளது
4. மேலாண்மை பல்வேறு முகங்கள் (அ) பக்கங்களைக் கொண்டது

Options :

485584145745. 1
485584145746. 2
485584145747. 3
485584145748. 4

Question Number : 53 Question Id : 48558436438 Question Type : MCQ Option Shuffling : No Is Question Mandatory : No Calculator : None Response Time : N.A Think Time : N.A Minimum Instruction Time : 0

Correct Marks : 5 Wrong Marks : 1

Question Key Details :

Key	Value
Comprehension	MCQ

"Planning is an Activity which enables a manager to look ahead and anticipate changes." Identify the point of Importance of Planning.

1. Planning reduces the risk of uncertainty
2. Planning facilitates decision making
3. Planning establishes standards for controlling
4. Planning provide directions

Options :

485584145749. 1
485584145750. 2
485584145751. 3
485584145752. 4

Question Number : 53 Question Id : 48558436438 Question Type : MCQ Option Shuffling : No Is Question Mandatory : No Calculator : None Response Time : N.A Think Time : N.A Minimum Instruction Time : 0

Correct Marks : 5 Wrong Marks : 1

Question Key Details :

Key	Value
Comprehension	MCQ

"திட்டமிடுதல் என்பது எதிர்காலத்தையும் மாற்றத்தையும் கருத்தில் கொண்டு மேலாளரை செயல்பட தூண்டும் செயல்பாடாகும்." திட்டமிடுதலின் முக்கிய புள்ளியை கண்டுபிடி.

1. திட்டமிடல் எதிர்பாராத இடர்பாடுகளை தவிர்க்கின்றது
2. திட்டமிடல் முக்கிய முடிவுகளுக்கு வசதி செய்கின்றது
3. திட்டமிடல் திறமையான கட்டுப்பாட்டை நிறுவுகின்றது
4. திட்டமிடல் வழிகாட்டுதலுக்கு உதவுகின்றது

Options :

485584145749. 1
485584145750. 2
485584145751. 3
485584145752. 4

Question Number : 54 Question Id : 48558436439 Question Type : MCQ Option Shuffling : No Is Question Mandatory : No Calculator : None Response Time : N.A Think Time : N.A Minimum Instruction Time : 0

Correct Marks : 5 Wrong Marks : 1

Question Key Details :

Key	Value
Comprehension	MCQ

Ravi is working as supervisor with Zinc limited. Identify the level of management at which Ravi is employed.

1. Top Management
2. Middle Management
3. Operational Management
4. Apex Management

Options :

485584145753. 1
485584145754. 2
485584145755. 3
485584145756. 4

Question Number : 54 Question Id : 48558436439 Question Type : MCQ Option Shuffling : No Is Question Mandatory : No Calculator : None Response Time : N.A Think Time : N.A Minimum Instruction Time : 0

Correct Marks : 5 Wrong Marks : 1

Question Key Details :

Key	Value
Comprehension	MCQ

ரவி, ஜிங்க் லிமிடெட் மூலம் மேற்பார்வையாளராகப் பணிபுரிகிறார். ரவி பணிபுரியும் நிர்வாகத்தின் அளவைக் கண்டறியவும்.

1. டாப் மேனேஜ்மென்ட்
2. நடுத்தர மேலாண்மை
3. செயல்பாட்டு மேலாண்மை
4. அபெக்ஸ் மேலாண்மை

Options :

485584145753. 1
485584145754. 2
485584145755. 3
485584145756. 4

Question Number : 55 Question Id : 48558436440 Question Type : MCQ Option Shuffling : No Is Question Mandatory : No Calculator : None Response Time : N.A Think Time : N.A Minimum Instruction Time : 0

Correct Marks : 5 Wrong Marks : 1

Question Key Details :

Key	Value
Comprehension	MCQ

In this type of Organizational structure, the cost may increase since there may be a duplication of activities across products. Identify the organizational structure.

1. Functional Structure
2. Delegated Structure
3. Divisional Structure
4. Informal Structure

Options :

485584145757. 1
485584145758. 2
485584145759. 3
485584145760. 4

Question Number : 55 Question Id : 48558436440 Question Type : MCQ Option Shuffling : No Is Question Mandatory : No Calculator : None Response Time : N.A Think Time : N.A Minimum Instruction Time : 0

Correct Marks : 5 Wrong Marks : 1

Question Key Details :

Key	Value
Comprehension	MCQ

எந்த வகையான தொழிற்முறை அமைப்பில், அனைத்து தயாரிப்புகளிலும் நகல் பதிப்பு செயல்பாடுகள் காரணமாக விலை உயரும்?

1. பணியமைப்பு
2. பொறுப்புகள் பகிர்ந்தளிப்பு
3. பகிர்ந்தளிக்கும் அமைப்பு
4. முறையற்ற அமைப்பு

Options :

485584145757. 1
485584145758. 2
485584145759. 3
485584145760. 4

Question Number : 56 Question Id : 48558436441 Question Type : MCQ Option Shuffling : No Is Question Mandatory : No Calculator : None Response Time : N.A Think Time : N.A Minimum Instruction Time : 0

Correct Marks : 5 Wrong Marks : 1

Question Key Details :

Key	Value
Comprehension	MCQ

Divisional Structure is based on _____.

1. Product Lines
2. Functional Lines
3. Informal Basis
4. Occupational Specialization

Options :

485584145761. 1
485584145762. 2
485584145763. 3
485584145764. 4

Question Number : 56 Question Id : 48558436441 Question Type : MCQ Option Shuffling : No Is Question Mandatory : No Calculator : None Response Time : N.A Think Time : N.A Minimum Instruction Time : 0

Correct Marks : 5 Wrong Marks : 1

Question Key Details :

Key	Value
Comprehension	MCQ

டிவிஷனல் அமைப்பு _____ சார்ந்தது.

1. உற்பத்தி கோடுகளை
2. பணிக் கோடுகளை
3. முறையற்ற அடிப்படையில்
4. தொழிலில் சிறப்பு பெற்றதை

Options :

485584145761. 1
485584145762. 2
485584145763. 3
485584145764. 4

Question Number : 57 Question Id : 48558436442 Question Type : MCQ Option Shuffling : No Is Question Mandatory : No Calculator : None Response Time : N.A Think Time : N.A Minimum Instruction Time : 0

Correct Marks : 5 Wrong Marks : 1

Question Key Details :

Key	Value
Comprehension	MCQ

_____ can be delegated.

1. Responsibility
2. Authority
3. Accountability
4. Answerability

Options :

485584145765. 1
485584145766. 2
485584145767. 3
485584145768. 4

Question Number : 57 Question Id : 48558436442 Question Type : MCQ Option Shuffling : No Is Question Mandatory : No Calculator : None Response Time : N.A Think Time : N.A Minimum Instruction Time : 0

Correct Marks : 5 Wrong Marks : 1

Question Key Details :

Key	Value
Comprehension	MCQ

_____ பகிர்ந்தளிக்கப்படுகிறது.

1. பொறுப்பு
2. அதிகாரம்
3. கணக்கு காட்டும் பொறுப்பு
4. பதில் சொல்லும் பொறுப்பு

Options :

485584145765. 1
485584145766. 2
485584145767. 3
485584145768. 4

Question Number : 58 Question Id : 48558436443 Question Type : MCQ Option Shuffling : No Is Question Mandatory : No Calculator : None Response Time : N.A Think Time : N.A Minimum Instruction Time : 0

Correct Marks : 5 Wrong Marks : 1

Question Key Details :

Key	Value
Comprehension	MCQ

_____ Test is a measure of individuals potential for learning new skills.

1. Trade tests
2. Personality tests
3. Aptitude tests
4. Intelligence tests

Options :

485584145769. 1
485584145770. 2
485584145771. 3
485584145772. 4

Question Number : 58 Question Id : 48558436443 Question Type : MCQ Option Shuffling : No Is Question Mandatory : No Calculator : None Response Time : N.A Think Time : N.A Minimum Instruction Time : 0

Correct Marks : 5 Wrong Marks : 1

Question Key Details :

Key	Value
Comprehension	MCQ

_____ தனிமனிதன் புது வகையான திறமையை கற்றுக்கொள்வதற்கான ஆற்றலை அளவிடுகிறது.

1. வர்த்தக சோதனை
2. ஆளுமை சோதனை
3. திறனறி தேர்வு
4. அறிவுசார் சோதனை

Options :

485584145769. 1
485584145770. 2
485584145771. 3
485584145772. 4

Question Number : 59 Question Id : 48558436444 Question Type : MCQ Option Shuffling : No Is Question Mandatory : No Calculator : None Response Time : N.A Think Time : N.A Minimum Instruction Time : 0

Correct Marks : 5 Wrong Marks : 1

Question Key Details :

Key	Value
Comprehension	MCQ

"Many reputed organizations keep a database of unsolicited applications in their offices based on which a list of job-seekers can be prepared and can be screened to fill the vacancies as they arise". Identify the source referred of recruitment above.

1. Direct Recruitment
2. Campus Recruitment
3. Labour Contractors
4. Casual Callers

Options :

485584145773. 1
485584145774. 2
485584145775. 3
485584145776. 4

Question Number : 59 Question Id : 48558436444 Question Type : MCQ Option Shuffling : No Is Question Mandatory : No Calculator : None Response Time : N.A Think Time : N.A Minimum Instruction Time : 0

Correct Marks : 5 Wrong Marks : 1

Question Key Details :

Key	Value
Comprehension	MCQ

பெரும்பாலான சிறந்த நிறுவனங்கள் மறைமுக டேட்டா அடிப்படையில் விண்ணப்பங்கள் பெற்று, அதன் மூலம் வேலை தேடுபவர்களை கண்டுபிடித்து தேவைக்கு ஏற்ப வடிகட்டி காலியிடங்களை நிரப்புகின்றன. எந்த மூலத்தின் அடிப்படையில் ஆள்சேர்ப்பு நடைபெறுகின்றது என்பதைக் கண்டறிக.

1. நேர்முக ஆள்சேர்ப்பு
2. வளாகங்களில் இருந்து ஆள் எடுப்பு
3. ஒப்பந்த அடிப்படையிலான கூலிகள்
4. தேவைப்படும் போது மட்டும் தேவையானவர்களை எடுப்பது

Options :

485584145773. 1
485584145774. 2
485584145775. 3
485584145776. 4

Question Number : 60 Question Id : 48558436445 Question Type : MCQ Option Shuffling : No Is Question Mandatory : No Calculator : None Response Time : N.A Think Time : N.A Minimum Instruction Time : 0

Correct Marks : 5 Wrong Marks : 1

Question Key Details :

Key	Value
Comprehension	MCQ

It involves shifting of an employee from one job to another, one department to another or from one shift to another, without a substantive change in the responsibilities and status of an employee. It is known as _____.

1. Training
2. Transfer
3. Promotion
4. Development

Options :

485584145777. 1
485584145778. 2
485584145779. 3
485584145780. 4

Question Number : 60 Question Id : 48558436445 Question Type : MCQ Option Shuffling : No Is Question Mandatory : No Calculator : None Response Time : N.A Think Time : N.A Minimum Instruction Time : 0

Correct Marks : 5 Wrong Marks : 1

Question Key Details :

Key	Value
Comprehension	MCQ

ஒரு வேலையில் இருந்து வேறு வேலைக்கு மாறுவது, ஒரு துறையில் இருந்து மற்றொரு துறைக்கு அல்லது ஒரு ஷிப்டிலிருந்து இருந்து அடுத்த ஷிப்டுக்கு பொறுப்புகள் மற்றும் நிலைகளில் அடிப்படையில் எந்தவொரு மாற்றமின்றி மாற்றப்படுவது எதைக் குறிக்கிறது?

1. பயிற்சிக்கு
2. மாற்றம்
3. உயர்வு
4. வளர்ச்சி

Options :

485584145777. 1
485584145778. 2
485584145779. 3
485584145780. 4

Question Number : 61 Question Id : 48558436446 Question Type : MCQ Option Shuffling : No Is Question Mandatory : No Calculator : None Response Time : N.A Think Time : N.A Minimum Instruction Time : 0

Correct Marks : 5 Wrong Marks : 1

Question Key Details :

Key	Value
Comprehension	MCQ

Organizational barriers to communication do not include :

1. Rules and regulations
2. Status
3. Organizational Policy
4. Lack of attention

Options :

485584145781. 1
485584145782. 2
485584145783. 3
485584145784. 4

Question Number : 61 Question Id : 48558436446 Question Type : MCQ Option Shuffling : No Is Question Mandatory : No Calculator : None Response Time : N.A Think Time : N.A Minimum Instruction Time : 0

Correct Marks : 5 Wrong Marks : 1

Question Key Details :

Key	Value
Comprehension	MCQ

கீழ்க்காண்பதில் எவை நிறுவன தகவல்தொடர்பு தடைகள் இல்லை?

1. விதிகளும் நடைமுறைகளும்
2. நிலைகள்
3. நிறுவனக் கொள்கை
4. கவனக் குறைவு

Options :

485584145781. 1
485584145782. 2
485584145783. 3
485584145784. 4

Question Number : 62 Question Id : 48558436447 Question Type : MCQ Option Shuffling : No Is Question Mandatory : No Calculator : None Response Time : N.A Think Time : N.A Minimum Instruction Time : 0

Correct Marks : 5 Wrong Marks : 1

Question Key Details :

Key	Value
Comprehension	MCQ

_____ means giving more autonomy and power to subordinates. This feeling contributes positively to the use of skills and talents in the job performance.

1. Employee Recognition Programme
2. Employee Empowerment
3. Status
4. Job Security

Options :

485584145785. 1
485584145786. 2
485584145787. 3
485584145788. 4

Question Number : 62 Question Id : 48558436447 Question Type : MCQ Option Shuffling : No Is Question Mandatory : No Calculator : None Response Time : N.A Think Time : N.A Minimum Instruction Time : 0

Correct Marks : 5 Wrong Marks : 1

Question Key Details :

Key	Value
Comprehension	MCQ

கீழ் நிலை பணியாளர்களுக்கு தன்னிச்சையான அதிகாரம் கொடுப்பது _____.
இது நேர்மறையான ஆற்றலையும், திறமையையும் தங்களது வேலையில் வெளிப்படுத்தும்.

1. பணியாளர்களை அங்கீகரிக்கும் நடைமுறை
2. பணியாளர் திறன் மேம்பாடு
3. நிலைமைகள்
4. வேலை உத்திரவாதம்

Options :

485584145785. 1
485584145786. 2
485584145787. 3
485584145788. 4

Question Number : 63 Question Id : 48558436448 Question Type : MCQ Option Shuffling : No Is Question Mandatory : No Calculator : None Response Time : N.A Think Time : N.A Minimum Instruction Time : 0

Correct Marks : 5 Wrong Marks : 1

Question Key Details :

Key	Value
Comprehension	MCQ

Which type of leader does not believe in the use of power unless it is absolutely essential ?

1. Free-rein / Laissez faire leader
2. Democratic leader
3. Autoeratic leader
4. Participative leader

Options :

485584145789. 1
485584145790. 2
485584145791. 3
485584145792. 4

Question Number : 63 Question Id : 48558436448 Question Type : MCQ Option Shuffling : No Is Question Mandatory : No Calculator : None Response Time : N.A Think Time : N.A Minimum Instruction Time : 0

Correct Marks : 5 Wrong Marks : 1

Question Key Details :

Key	Value
Comprehension	MCQ

எந்த வகையான தலைவர்கள், மிகவும் முக்கியத்துவத்துவம் வாய்ந்த சந்தர்ப்பங்களைத் தவிர மற்ற நேரங்களில் அதிகாரத்தைப் பயன்படுத்துவதில்லை?

1. எதையும் சாதாரணமாக எடுத்துக்கொள்ளும் தலைவர்
2. குடியரசு முறையிலான எண்ணம் கொண்ட தலைவர்
3. அதிகாரத்தின் குவிமையமாக இருக்கும் தலைவர்
4. அனைத்திலும் பங்கேற்கும் தலைவர்

Options :

485584145789. 1
485584145790. 2
485584145791. 3
485584145792. 4

Question Number : 64 Question Id : 48558436449 Question Type : MCQ Option Shuffling : No Is Question Mandatory : No Calculator : None Response Time : N.A Think Time : N.A Minimum Instruction Time : 0

Correct Marks : 5 Wrong Marks : 1

Question Key Details :

Key	Value
Comprehension	MCQ

The incentive is offered over and above the wages/salary to the employees is _____.

1. Project Sharing
2. Pay or Allowances
3. Perquisites
4. Bonus

Options :

485584145793. 1
485584145794. 2
485584145795. 3
485584145796. 4

Question Number : 64 Question Id : 48558436449 Question Type : MCQ Option Shuffling : No Is Question Mandatory : No Calculator : None Response Time : N.A Think Time : N.A Minimum Instruction Time : 0

Correct Marks : 5 Wrong Marks : 1

Question Key Details :

Key	Value
Comprehension	MCQ

பணியாளர்களுக்கு கூலி/சம்பளத்திற்கு மேல் ஊக்க ஊதியம் கொடுக்க எப்பொழுது முன்னெடுக்கப்படுகின்றது.

1. ஆய்வு பங்கீடு
2. செலுத்துதல்கள் அல்லது படிகள்
3. பணப்பயனில்லா படிகள்
4. ஊக்க ஊதியம்

Options :

485584145793. 1
485584145794. 2
485584145795. 3
485584145796. 4

Question Number : 65 Question Id : 48558436450 Question Type : MCQ Option Shuffling : No Is Question Mandatory : No Calculator : None Response Time : N.A Think Time : N.A Minimum Instruction Time : 0

Correct Marks : 5 Wrong Marks : 1

Question Key Details :

Key	Value
Comprehension	MCQ

Ashok went to a shop to buy a tooth paste. The shopkeeper showed him different varieties of toothpaste available in his shop. Ashok took one of them but had an allergy after using it. He later on checked that the product had crossed its expiry date. Which responsibility has Ashok ignored as a customer?

1. Read labels carefully for information such as net weight, price, expiry date etc.
2. Assert that you get a fair deal
3. Ask for a cash memo
4. Avoid waste, littering and contributing to pollution

Options :

485584145797. 1
485584145798. 2
485584145799. 3
485584145800. 4

Question Number : 65 Question Id : 48558436450 Question Type : MCQ Option Shuffling : No Is Question Mandatory : No Calculator : None Response Time : N.A Think Time : N.A Minimum Instruction Time : 0

Correct Marks : 5 Wrong Marks : 1

Question Key Details :

Key	Value
Comprehension	MCQ

அசோகா ரூத் பேஸ்ட் வாங்க ஒரு கடைக்குச் சென்றார். கடைக்காரர் அதைப் பயன்படுத்திய பிறகு அவருக்கு வித்தியாசமான ஒவ்வாமைகளைக் காட்டினார். தயாரிப்பு அதன் காலாவதி தேதியை தாண்டிவிட்டதா என்பதை அவர் பின்னர் சரிபார்த்தார். ஒரு வாடிக்கையாளராக அசோகா எந்த பொறுப்பை புறக்கணித்தார்?

1. நிகர எடை, விலை, காலாவதி தேதி போன்ற தகவல்களுக்கு லேபிள்களை கவனமாக படிக்கவும்.
2. உங்களுக்கு நியாயமான ஒப்பந்தம் கிடைக்கும் என்று வலியுறுத்துங்கள்
3. பண மெமோவைக் கேளுங்கள்
4. கழிவுகள், குப்பைகள் மற்றும் மாசுபாட்டிற்கு பங்களிப்பதை தவிர்க்கவும்

Options :

485584145797. 1
 485584145798. 2
 485584145799. 3
 485584145800. 4

Question Number : 66 Question Id : 48558436451 Question Type : MCQ Option Shuffling : No Is Question Mandatory : No Calculator : None Response Time : N.A Think Time : N.A Minimum Instruction Time : 0

Correct Marks : 5 Wrong Marks : 1

Question Key Details :

Key	Value
Comprehension	MCQ

It is mandatory for the manufactures to provide information such as ingredients, date of manufacture, price, directions for use, price etc. The consumer right highlighted here is-

1. Right to safety
2. Right to be informed
3. Right to be heard
4. Right to Consumer Education

Options :

485584145801. 1
 485584145802. 2
 485584145803. 3
 485584145804. 4

Question Number : 66 Question Id : 48558436451 Question Type : MCQ Option Shuffling : No Is Question Mandatory : No Calculator : None Response Time : N.A Think Time : N.A Minimum Instruction Time : 0

Correct Marks : 5 Wrong Marks : 1

Question Key Details :

Key	Value
Comprehension	MCQ

உற்பத்தியாளர்கள் தேவையான பொருட்கள், உற்பத்தி தேதி, விலை, பயன்பாட்டிற்கான திசைகள், விலை போன்ற தகவல்களை வழங்குவது கட்டாயமாகும். இங்கே முன்னிலைப்படுத்தப்பட்ட நுகர்வோர் உரிமை-

1. பாதுகாப்புக்கான உரிமை
2. தகவல் பெறும் உரிமை
3. கேட்கப்படும் உரிமை
4. நுகர்வோர் கல்விக்கான உரிமை

Options :

485584145801. 1
485584145802. 2
485584145803. 3
485584145804. 4

Question Number : 67 Question Id : 48558436452 Question Type : MCQ Option Shuffling : No Is Question Mandatory : No Calculator : None Response Time : N.A Think Time : N.A Minimum Instruction Time : 0

Correct Marks : 5 Wrong Marks : 1

Question Key Details :

Key	Value
Comprehension	MCQ

Net working capital is computed as _____.

1. Gross current assets
2. Gross current assets - total debt
3. Current assets - External debt
4. Current assets - Current liabilities

Options :

485584145805. 1
485584145806. 2
485584145807. 3
485584145808. 4

Question Number : 67 Question Id : 48558436452 Question Type : MCQ Option Shuffling : No Is Question Mandatory : No Calculator : None Response Time : N.A Think Time : N.A Minimum Instruction Time : 0

Correct Marks : 5 Wrong Marks : 1

Question Key Details :

Key	Value
Comprehension	MCQ

நிகர வேலை மூலதனம் _____ ஆக கணக்கிடப்படுகிறது.

1. மொத்த நடப்பு சொத்துக்கள்
2. மொத்த நடப்பு சொத்துக்கள் - மொத்த கடன்கள்
3. நடப்பு சொத்துக்கள் - வெளி கடன்கள்
4. நடப்பு சொத்துக்கள் - நடப்பு பொறுப்புகள்

Options :

485584145805. 1
485584145806. 2
485584145807. 3
485584145808. 4

Question Number : 68 Question Id : 48558436453 Question Type : MCQ Option Shuffling : No Is Question Mandatory : No Calculator : None Response Time : N.A Think Time : N.A Minimum Instruction Time : 0

Correct Marks : 5 Wrong Marks : 1

Question Key Details :

Key	Value
Comprehension	MCQ

_____ of a company affects both the profitability and the financial risk.

1. Working Capital
2. Capital Structure
3. Fixed Capital
4. Dividend decision

Options :

485584145809. 1
485584145810. 2
485584145811. 3
485584145812. 4

Question Number : 68 Question Id : 48558436453 Question Type : MCQ Option Shuffling : No Is Question Mandatory : No Calculator : None Response Time : N.A Think Time : N.A Minimum Instruction Time : 0

Correct Marks : 5 Wrong Marks : 1

Question Key Details :

Key	Value
Comprehension	MCQ

_____ நிறுவனத்தின் இலாபம் மற்றும் நிதி சார்ந்த இடர்களை பாதிக்கிறது.

1. வேலை மூலதனம்
2. மூலதன அமைப்பு
3. நிலையான மூலதனம்
4. பங்காதாய முடிவெடுப்பு

Options :

485584145809. 1
485584145810. 2
485584145811. 3
485584145812. 4

Question Number : 69 Question Id : 48558436454 Question Type : MCQ Option Shuffling : No Is Question Mandatory : No Calculator : None Response Time : N.A Think Time : N.A Minimum Instruction Time : 0

Correct Marks : 5 Wrong Marks : 1

Question Key Details :

Key	Value
Comprehension	MCQ

Identify the decision in which a company has to choose where to invest its resources so that it is able to earn the maximum possible return for their investors.

1. Working capital decision
2. Financing decision
3. Dividend decision
4. Investment decision

Options :

485584145813. 1
485584145814. 2
485584145815. 3
485584145816. 4

Question Number : 69 Question Id : 48558436454 Question Type : MCQ Option Shuffling : No Is Question Mandatory : No Calculator : None Response Time : N.A Think Time : N.A Minimum Instruction Time : 0

Correct Marks : 5 Wrong Marks : 1

Question Key Details :

Key	Value
Comprehension	MCQ

ஒரு நிறுவனம் அதன் வளங்களை எங்கு முதலீடு செய்ய வேண்டும் என்பதைத் தேர்ந்தெடுக்கும் முடிவைக் கண்டறியவும், அதன் மூலம் அது அவர்களின் முதலீட்டாளர்களுக்கு அதிகபட்ச வருமானத்தை ஈட்ட முடியும்.

1. பணி மூலதன முடிவு
2. நிதி முடிவு
3. ஈவுத்தொகை முடிவு
4. முதலீட்டு முடிவு

Options :

485584145813. 1
485584145814. 2
485584145815. 3
485584145816. 4

Question Number : 70 Question Id : 48558436455 Question Type : MCQ Option Shuffling : No Is Question Mandatory : No Calculator : None Response Time : N.A Think Time : N.A Minimum Instruction Time : 0

Correct Marks : 5 Wrong Marks : 1

Question Key Details :

Key	Value
Comprehension	MCQ

Select the term that indicates Principles of Management are not rigid prescriptions.

1. Human behaviour
2. Mainly behaviour
3. Contingent
4. Flexible

Options :

485584145817. 1
485584145818. 2
485584145819. 3
485584145820. 4

Question Number : 70 Question Id : 48558436455 Question Type : MCQ Option Shuffling : No Is Question Mandatory : No Calculator : None Response Time : N.A Think Time : N.A Minimum Instruction Time : 0

Correct Marks : 5 Wrong Marks : 1

Question Key Details :

Key	Value
Comprehension	MCQ

நிர்வாகத்தின் கோட்பாடுகள் கடுமையான மருந்துச்சீட்டுகள் அல்ல என்பதைக் குறிக்கும் சொல்லைத் தேர்ந்தெடுக்கவும்.

1. மனித நடத்தை
2. முதன்மையான நடத்தை
3. கன்டிஜென்ட்
4. நெகிழ்வான

Options :

485584145817. 1
485584145818. 2
485584145819. 3
485584145820. 4

Question Number : 71 Question Id : 48558436456 Question Type : MCQ Option Shuffling : No Is Question Mandatory : No Calculator : None Response Time : N.A Think Time : N.A Minimum Instruction Time : 0

Correct Marks : 5 Wrong Marks : 1

Question Key Details :

Key	Value
Comprehension	MCQ

" People and materials must be in suitable places at appropriate time for maximum efficiency."

Application of this principle will lead to:

1. Hindrance in the activities of business/factory
2. Increased productivity and efficiency
3. No discrimination against anyone
4. Justice and kindness in the behaviour of managers.

Options :

485584145821. 1
485584145822. 2
485584145823. 3
485584145824. 4

Question Number : 71 Question Id : 48558436456 Question Type : MCQ Option Shuffling : No Is Question Mandatory : No Calculator : None Response Time : N.A Think Time : N.A Minimum Instruction Time : 0

Correct Marks : 5 Wrong Marks : 1

Question Key Details :

Key	Value
Comprehension	MCQ

"அதிகபட்ச செயல்திறனுக்காக, சரியான நேரத்தில், மக்கள் மற்றும் பொருட்கள் பொருத்தமான இடங்களில் இருக்க வேண்டும்."
இந்த கொள்கையின் பயன்பாடு இதற்கு வழிவகுக்கும்:

1. வணிகம்/தொழிற்சாலையின் செயல்பாடுகளில் தடை
2. அதிகரித்த உற்பத்தித்திறன் மற்றும் செயல்திறன்
3. யாருக்கும் பாகுபாடு இல்லை
4. மேலாளர்களின் நடத்தையில் நீதி மற்றும் இரக்கம்.

Options :

485584145821. 1
485584145822. 2
485584145823. 3
485584145824. 4

Question Number : 72 Question Id : 48558436457 Question Type : MCQ Option Shuffling : No Is Question Mandatory : No Calculator : None Response Time : N.A Think Time : N.A Minimum Instruction Time : 0

Correct Marks : 5 Wrong Marks : 1

Question Key Details :

Key	Value
Comprehension	MCQ

In the principle of Scalar Chain, the shortest route for communication in case of emergency is called:

1. Gang Plank
2. Special route
3. Formal route
4. Protocol

Options :

485584145825. 1
485584145826. 2
485584145827. 3
485584145828. 4

Question Number : 72 Question Id : 48558436457 Question Type : MCQ Option Shuffling : No Is Question Mandatory : No Calculator : None Response Time : N.A Think Time : N.A Minimum Instruction Time : 0

Correct Marks : 5 Wrong Marks : 1

Question Key Details :

Key	Value
Comprehension	MCQ

ஸ்கேலார் செயின் கொள்கையின்படி, அவசரகாலத்தில் தொடர்பு கொள்வதற்கான குறுகிய பாதை அழைக்கப்படுகிறது:

1. கேங் பிளாங்க்
2. சிறப்பு வழி
3. முறையான பாதை
4. நெறிமுறை

Options :

485584145825. 1
485584145826. 2
485584145827. 3
485584145828. 4

Question Number : 73 Question Id : 48558436458 Question Type : MCQ Option Shuffling : No Is Question Mandatory : No Calculator : None Response Time : N.A Think Time : N.A Minimum Instruction Time : 0

Correct Marks : 5 Wrong Marks : 1

Question Key Details :

Key	Value
Comprehension	MCQ

If any party is not satisfied by the order of District Commission, then appeal against such order can be made to state commission within a period of _____ days from the date of order.

1. Forty five
2. Thirty
3. Sixty
4. Forty

Options :

485584145829. 1
485584145830. 2
485584145831. 3
485584145832. 4

Question Number : 73 Question Id : 48558436458 Question Type : MCQ Option Shuffling : No Is Question Mandatory : No Calculator : None Response Time : N.A Think Time : N.A Minimum Instruction Time : 0

Correct Marks : 5 Wrong Marks : 1

Question Key Details :

Key	Value
Comprehension	MCQ

மாவட்ட ஆணையத்தால் வழங்கப்பட்ட ஆணையில் எந்த தரப்பினரும் திருப்தியடையவில்லை எனில், அந்த ஆணைக்கு எதிரான மேல்முறையீடு ஆணையிட்ட தேதியிலிருந்து _____ நாட்களுக்குள் மாநில ஆணையத்தில் மேற்கொள்ளப்பட வேண்டும்.

1. நாற்பத்து ஐந்து
2. முப்பது
3. அறுபது
4. நாற்பது

Options :

485584145829. 1
485584145830. 2
485584145831. 3
485584145832. 4

Question Number : 74 Question Id : 48558436459 Question Type : MCQ Option Shuffling : No Is Question Mandatory : No Calculator : None Response Time : N.A Think Time : N.A Minimum Instruction Time : 0

Correct Marks : 5 Wrong Marks : 1

Question Key Details :

Key	Value
Comprehension	MCQ

Functions of Entrepreneurship in relation to economic Development do not include :-

1. Contribution to GDP
2. Capital Formation
3. Generation of Employment
4. Generation of Business opportunities only for same business

Options :

485584145833. 1
485584145834. 2
485584145835. 3
485584145836. 4

Question Number : 74 Question Id : 48558436459 Question Type : MCQ Option Shuffling : No Is Question Mandatory : No Calculator : None Response Time : N.A Think Time : N.A Minimum Instruction Time : 0

Correct Marks : 5 Wrong Marks : 1

Question Key Details :

Key	Value
Comprehension	MCQ

தொழில் முனைவோரின் பொருளாதார வளர்ச்சியுடன் தொடர்புடைய பணிகள் இதில் அடங்காது:

1. மொத்த உள்நாட்டு உற்பத்தியின் பங்களிப்பு
2. மூலதன உருவாக்கம்
3. வேலைவாய்ப்பை உருவாக்குதல்
4. ஒரே வகையான வியாபார வாய்ப்புக்களை உருவாக்குவது.

Options :

485584145833. 1
485584145834. 2
485584145835. 3
485584145836. 4

Question Number : 75 Question Id : 48558436460 Question Type : MCQ Option Shuffling : No Is Question Mandatory : No Calculator : None Response Time : N.A Think Time : N.A Minimum Instruction Time : 0

Correct Marks : 5 Wrong Marks : 1

Question Key Details :

Key	Value
Comprehension	MCQ

The person who combines all factors of production, who takes risk to earn profit is called entrepreneur.
Entrepreneur is _____.

1. Subject
2. Verb
3. Outcome
4. Process

Options :

485584145837. 1
485584145838. 2
485584145839. 3
485584145840. 4

Question Number : 75 Question Id : 48558436460 Question Type : MCQ Option Shuffling : No Is Question Mandatory : No Calculator : None Response Time : N.A Think Time : N.A Minimum Instruction Time : 0

Correct Marks : 5 Wrong Marks : 1

Question Key Details :

Key	Value
Comprehension	MCQ

அனைத்து உற்பத்தி காரணிகளையும் கொண்ட ஒருவர், இலாபம் ஈட்டுவதற்கான அனைத்து இடங்களையும் மேற்கொள்ளக்கூடியவர், இவர் _____ தொழில் முனைவோர் ஆவார்.

1. பொருள்
2. வினை
3. பயன்
4. நடைமுறை

Options :

485584145837. 1
485584145838. 2
485584145839. 3
485584145840. 4

Question Number : 76 Question Id : 48558436461 Question Type : MCQ Option Shuffling : No Is Question Mandatory : No Calculator : None Response Time : N.A Think Time : N.A Minimum Instruction Time : 0

Correct Marks : 5 Wrong Marks : 1

Question Key Details :

Key	Value
Comprehension	MCQ

Zicon Ltd. has recently set a target of becoming market leader in sale of smart TV. Arrange the steps in the process of planning which will follow after setting of targets :

- A. Identifying alternative courses of action
- B. Implementing the plan
- C. Evaluating alternative courses
- D. Selecting an alternative
- E. Developing premises

Choose the correct answer from the options given below :

1. E, A, C, D, B
2. E, C, D, B, A
3. B, C, E, A, D
4. E, A, B, D, C

Options :

485584145841. 1
485584145842. 2
485584145843. 3
485584145844. 4

Question Number : 76 Question Id : 48558436461 Question Type : MCQ Option Shuffling : No Is Question Mandatory : No Calculator : None Response Time : N.A Think Time : N.A Minimum Instruction Time : 0

Correct Marks : 5 Wrong Marks : 1

Question Key Details :

Key	Value
Comprehension	MCQ

சிக்கான் லிமிடெட் சமீபத்தில் ஓர் வியாபார அளவாக, ஸ்மார்ட் டிவி விற்பனையில் சந்தையில் முதலாவதாக இருக்க வேண்டும் என்ற திட்டமிடலின் அடிப்படையில், அவர்களின் நோக்கத்தை அடைய செயல்படும் வழிமுறைகளை கீழ்காண்பனவற்றில் வரிசைப்படுத்துக:

- A. மாறுபட்ட நடவடிக்கை காண்பது
- B. திட்டத்தை செயல்படுத்துவது
- C. மாறுபட்ட நடவடிக்கைகளை மதிப்பீடு செய்வது
- D. மாற்றை தேர்வு செய்வது
- E. வளாகத்தை விரிவாக்கம் செய்வது

கீழே தரப்பட்டுள்ள வாய்ப்புகளில் இருந்து சரியான விடையைத் தேர்ந்தெடுக்கவும்:

- 1. E, A, C, D, B
- 2. E, C, D, B, A
- 3. B, C, E, A, D
- 4. E, A, B, D, C

Options :

- 485584145841. 1
- 485584145842. 2
- 485584145843. 3
- 485584145844. 4

Question Number : 77 Question Id : 48558436462 Question Type : MCQ Option Shuffling : No Is Question Mandatory : No Calculator : None Response Time : N.A Think Time : N.A Minimum Instruction Time : 0

Correct Marks : 5 Wrong Marks : 1

Question Key Details :

Key	Value
Comprehension	MCQ

Arrange the correct sequence of steps in Organizing process.

- A. Identification and division of work
- B. Establishing authority and reporting relationships
- C. Assignment of Duties
- D. Departmentalization

Choose the correct answer from the options given below :

- 1. B, C, A, D
- 2. D, A, B, C
- 3. C, B, D, A
- 4. A, D, C, B

Options :

- 485584145845. 1
- 485584145846. 2
- 485584145847. 3
- 485584145848. 4

Question Number : 77 Question Id : 48558436462 Question Type : MCQ Option Shuffling : No Is Question Mandatory : No Calculator : None Response Time : N.A Think Time : N.A Minimum Instruction Time : 0

Correct Marks : 5 Wrong Marks : 1

Question Key Details :

Key	Value
Comprehension	MCQ

நிறுவனத்தின் நடைமுறைகளை சரியான வரிசையில் வரிசைப்படுத்துக.

- A. வேலையைப் பிரித்து கொடுத்தல் மற்றும் அடையாளப்படுத்துதல்
- B. அதிகாரம் மற்றும் அறிகைகளை ஒப்புமை படுத்தி நிறுவுதல்
- C. வேலையை ஒதுக்கீடு செய்தல்
- D. துறைமயமாக்கல்

கீழே தரப்பட்டுள்ள வாய்ப்புகளில் இருந்து சரியான விடையைத் தேர்ந்தெடுக்கவும்:

- 1. B, C, A, D
- 2. D, A, B, C
- 3. C, B, D, A
- 4. A, D, C, B

Options :

- 485584145845. 1
- 485584145846. 2
- 485584145847. 3
- 485584145848. 4

Question Number : 78 Question Id : 48558436463 Question Type : MCQ Option Shuffling : No Is Question Mandatory : No Calculator : None Response Time : N.A Think Time : N.A Minimum Instruction Time : 0 Correct Marks : 5 Wrong Marks : 1

Question Key Details :

Key	Value
Comprehension	MCQ

Mr. Prateek, the Production Manager of Zim Ltd. has selected the right workforce for his department. He decides the following steps which he would adopt in the process of staffing. Arrange them in correct sequence

- A. Performance Appraisal
- B. Compensation
- C. Placement and Orientation
- D. Promotion and Career Planning
- E. Training and development

Choose the correct answer from the options given below :

- 1. C, A, E, D, B
- 2. B, C, D, A, E
- 3. D, A, B, E, C
- 4. C, E, A, D, B

Options :

- 485584145849. 1
- 485584145850. 2
- 485584145851. 3
- 485584145852. 4

Question Number : 78 Question Id : 48558436463 Question Type : MCQ Option Shuffling : No Is Question Mandatory : No Calculator : None Response Time : N.A Think Time : N.A Minimum Instruction Time : 0

Correct Marks : 5 Wrong Marks : 1

Question Key Details :

Key	Value
Comprehension	MCQ

திரு.பிரதீக், உற்பத்தி மேலாளர், ஜிம் லிமிடெட்டில் இவர் தனது துறைக்கு சரியான பணியாளர்களை தேர்வு செய்துள்ளார். ஆன்செர்ப்பில் கீழ்க்காணும் நடைமுறைகளை செயல்படுத்த முடிவு செய்துள்ளார். சரியான வரிசையில் அடுக்குக.

- A. ஒருவரின் வேலை தரம் பற்றிய மதிப்பீடு
- B. இழப்பீடு
- C. பணியமர்த்தல் மற்றும் புத்துணர்வு
- D. பணியுயர்வு மற்றும் வேலைவாய்ப்பை திட்டமிடல்
- E. பயிற்சி மற்றும் வளர்ச்சி

கீழே தரப்பட்டுள்ள வாய்ப்புகளில் இருந்து சரியான விடையைத் தேர்ந்தெடுக்கவும்:

- 1. C, A, E, D, B
- 2. B, C, D, A, E
- 3. D, A, B, E, C
- 4. C, E, A, D, B

Options :

- 485584145849. 1
- 485584145850. 2
- 485584145851. 3
- 485584145852. 4

Question Number : 79 Question Id : 48558436464 Question Type : MCQ Option Shuffling : No Is Question Mandatory : No Calculator : None Response Time : N.A Think Time : N.A Minimum Instruction Time : 0

Correct Marks : 5 Wrong Marks : 1

Question Key Details :

Key	Value
Comprehension	MCQ

Arrange the steps of trading procedure of stock exchange in the correct sequence

- A. Delivering the shares
- B. Placing an Order
- C. Opening a Demat Account
- D. Execution of the order
- E. Settlement of transaction

Choose the correct answer from the options given below :

- 1. C, A, B, D, E
- 2. C, B, D, A, E
- 3. B, A, D, C, E
- 4. B, C, A, E, D

Options :

485584145853. 1
 485584145854. 2
 485584145855. 3
 485584145856. 4

Question Number : 79 Question Id : 48558436464 Question Type : MCQ Option Shuffling : No Is Question Mandatory : No Calculator : None Response Time : N.A Think Time : N.A Minimum Instruction Time : 0

Correct Marks : 5 Wrong Marks : 1

Question Key Details :

Key	Value
Comprehension	MCQ

பங்கு சந்தையில் நடைபெறும் வியாபார நடவடிக்கைகளை சரியான வரிசையில் அடுக்குக.

- A. பங்குகளை வெளியிடுவது
 B. இடத்தைப் பிடிக்க ஆணையிடுவது
 C. டிமேட் கணக்கை ஆரம்பிப்பது
 D. ஆணையை செயல்படுத்துவது
 E. நடவடிக்கைகளை செய்து முடிப்பது

கீழே தரப்பட்டுள்ள வாய்ப்புகளில் இருந்து சரியான விடையைத் தேர்ந்தெடுக்கவும்:

1. C, A, B, D, E
 2. C, B, D, A, E
 3. B, A, D, A, E
 4. B, C, A, E, D

Options :

485584145853. 1
 485584145854. 2
 485584145855. 3
 485584145856. 4

Question Number : 80 Question Id : 48558436465 Question Type : MCQ Option Shuffling : No Is Question Mandatory : No Calculator : None Response Time : N.A Think Time : N.A Minimum Instruction Time : 0

Correct Marks : 5 Wrong Marks : 1

Question Key Details :

Key	Value
Comprehension	MCQ

Arrange the following in proper sequence.

- A. Critical Point control and management by exception
- B. Performance should be measured in an objective and reliable manner
- C. Standards are set in both Quantitative as well as Qualitative terms
- D. Reveal the deviation between actual and desired results
- E. Taking corrective action

Choose the correct answer from the options given below :

- 1. A, B, C, D, E
- 2. E, D, C, B, A
- 3. C, B, D, A, E
- 4. A, C, B, E, D

Options :

- 485584145857. 1
- 485584145858. 2
- 485584145859. 3
- 485584145860. 4

Question Number : 80 Question Id : 48558436465 Question Type : MCQ Option Shuffling : No Is Question Mandatory : No Calculator : None Response Time : N.A Think Time : N.A Minimum Instruction Time : 0

Correct Marks : 5 Wrong Marks : 1

Question Key Details :

Key	Value
Comprehension	MCQ

கீழ்க்காண்பதை சரியான வரிசையில் அடுக்குக.

- A. இக்கட்டாண புள்ளி மற்றும் மேலாண்மை செயல்முறை
- B. வேலை வெளியிட்டு அளவை நோக்கத்திலும் நம்பகத்தன்மை மூலமும் அளவிடுதல்
- C. தரம் என்பது எண்ணிக்கை மற்றும் தரத்தின் அடிப்படையில் நிர்ணயிக்கப்படுகிறது
- D. சரியான மற்றும் எதிர்பார்த்த முடிவுகளுக்கு இடையேயான விலகலை வெளியிடுவது
- E. சரியான நடவடிக்கை எடுப்பது

கீழே தரப்பட்டுள்ள வாய்ப்புகளில் இருந்து சரியான விடையைத் தேர்ந்தெடுக்கவும்:

- 1. A, B, C, D, E
- 2. E, D, C, B, A
- 3. C, B, D, A, E
- 4. A, C, B, E, D

Options :

- 485584145857. 1
- 485584145858. 2
- 485584145859. 3
- 485584145860. 4

Question Number : 81 Question Id : 48558436466 Question Type : MCQ Option Shuffling : No Is Question Mandatory : No Calculator : None Response Time : N.A Think Time : N.A Minimum Instruction Time : 0

Correct Marks : 5 Wrong Marks : 1

Question Key Details :

Key	Value
Comprehension	MCQ

Identify the correct combinations of Principles of Management.

- A. Division of work and motion study
- B. Equity and scalar chain
- C. Authority and Responsibility and Method Study
- D. Discipline and Order
- E. Initiative and Fatigue Study

Choose the correct answer from the options given below :

- 1. B and D Only
- 2. A and D Only
- 3. B and E Only
- 4. C and E Only

Options :

- 485584145861. 1
- 485584145862. 2
- 485584145863. 3
- 485584145864. 4

Question Number : 81 Question Id : 48558436466 Question Type : MCQ Option Shuffling : No Is Question Mandatory : No Calculator : None Response Time : N.A Think Time : N.A Minimum Instruction Time : 0

Correct Marks : 5 Wrong Marks : 1

Question Key Details :

Key	Value
Comprehension	MCQ

மேலாண்மை கொள்கையின் சரியான தொடர்புகளை கண்டுபிடி:

- A. வேலை பகிர்ந்தளிப்பு மற்றும் இயக்க படிப்பினை
- B. சாதாரண மற்றும் சுற்று சங்கிலி
- C. அதிகாரம் மற்றும் பொறுப்பு மற்றும் வகை படிப்பினை
- D. ஒழுக்கம் மற்றும் நெறி
- E. அறிமுகப்படுத்துதல் மற்றும் தொய்வான படிப்பினை

கீழே தரப்பட்டுள்ள வாய்ப்புகளில் இருந்து சரியான விடையைத் தேர்ந்தெடுக்கவும்:

- 1. B மற்றும் D மட்டும்
- 2. A மற்றும் D மட்டும்
- 3. B மற்றும் E மட்டும்
- 4. C மற்றும் E மட்டும்

Options :

- 485584145861. 1
- 485584145862. 2
- 485584145863. 3
- 485584145864. 4

Question Number : 82 Question Id : 48558436467 Question Type : MCQ Option Shuffling : No Is Question Mandatory : No Calculator : None Response Time : N.A Think Time : N.A Minimum Instruction Time : 0

Correct Marks : 5 Wrong Marks : 1

Question Key Details :

Key	Value
Comprehension	MCQ

Which of the following are the sources of Recruitment for a newly set organization?

- A. Unskilled workers required for unskilled work provided by labour contractor
- B. Promotion to the higher post
- C. Websites such as www.naukri.com & jobstreet etc.
- D. Recommendations of employees
- E. Recruitment from educational institutions

Choose the correct answer from the options given below :

- 1. B Only
- 2. A, C and D Only
- 3. A, C & E Only
- 4. E Only

Options :

- 485584145865. 1
- 485584145866. 2

485584145867. 3

485584145868. 4

Question Number : 82 Question Id : 48558436467 Question Type : MCQ Option Shuffling : No Is Question Mandatory : No Calculator : None Response Time : N.A Think Time : N.A Minimum Instruction Time : 0

Correct Marks : 5 Wrong Marks : 1

Question Key Details :

Key	Value
Comprehension	MCQ

புதுவகையான நிறுவனங்களில் எந்த மாதிரியான ஆள்சேர்ப்பு நடைமுறைகள் பயன்படுத்தப்படுகின்றன?

- A. தனித்திறன் தேவை இல்லாத வேலைகளுக்கு தனித்திறமை இல்லாத வேலையாட்களை ஒப்பந்த அடிப்படையிலான கூலிகளாக எடுக்கின்றனர்.
- B. பெரிய பதவிகளுக்கு உயர்த்துவது
- C. வெப்சைட்: www.naukri.com & jobtostreet போன்றவை
- D. பணியாளர்களின் அறிமுகத்தில்
- E. கல்வி நிறுவனங்கள் மூலம் ஆள்சேர்ப்பது

கீழே தரப்பட்டுள்ள வாய்ப்புகளில் இருந்து சரியான விடையைத் தேர்ந்தெடுக்கவும்:

- 1. B மட்டும்
- 2. A, C மற்றும் D மட்டும்
- 3. A, C மற்றும் E மட்டும்
- 4. E மட்டும்

Options :

485584145865. 1

485584145866. 2

485584145867. 3

485584145868. 4

Question Number : 83 Question Id : 48558436468 Question Type : MCQ Option Shuffling : No Is Question Mandatory : No Calculator : None Response Time : N.A Think Time : N.A Minimum Instruction Time : 0

Correct Marks : 5 Wrong Marks : 1

Question Key Details :

Key	Value
Comprehension	MCQ

Which of the following statement/statements are not related with elements of Directing.

- A. Every manager in the organization supervise his/her subordinates
- B. It stimulates people to take up work voluntarily
- C. The process of influencing the behavior of people by making them strive voluntarily towards achievements of organizational goals
- D. Effective communication with subordinates
- E. Coordinating different functions of management

Choose the correct answer from the options given below :

- 1. E Only
- 2. A, B and D Only
- 3. D Only
- 4. B and C Only

Options :

- 485584145869. 1
- 485584145870. 2
- 485584145871. 3
- 485584145872. 4

Question Number : 83 Question Id : 48558436468 Question Type : MCQ Option Shuffling : No Is Question Mandatory : No Calculator : None Response Time : N.A Think Time : N.A Minimum Instruction Time : 0

Correct Marks : 5 Wrong Marks : 1

Question Key Details :

Key	Value
Comprehension	MCQ

கீழ்க்காணும் கூற்றில், எவை இயக்கத்தின் கூறுகள் இல்லை:

- A. நிறுவனத்தின் ஒவ்வொரு மேலாளரும் தங்களுக்கு கீழ் உள்ள பணியாளர்களை மேற்பார்வை இடுகின்றனர்.
- B. மக்களை தன்னிச்சையாக வேலை செய்ய தூண்டுவது
- C. மக்களை அவர்களின் நடவடிக்கையின் மூலம் தன்னார்வத்துடன் நிறுவனத்தின் நோக்கை அடைவதை நோக்கி செலுத்துவது
- D. கீழ் நிலையில் பணிபுரிபவர்களுடன் தொடர்பில் இருத்தல்
- E. நிறுவனத்தின் அனைத்து பணிகளையும் ஒருங்கிணைப்பது

கீழே தரப்பட்டுள்ள வாய்ப்புகளில் இருந்து சரியான விடையைத் தேர்ந்தெடுக்கவும்:

- 1. E மட்டும்
- 2. A, B மற்றும் D மட்டும்
- 3. D மட்டும்
- 4. B மற்றும் C மட்டும்

Options :

- 485584145869. 1
- 485584145870. 2
- 485584145871. 3
- 485584145872. 4

Question Number : 84 Question Id : 48558436469 Question Type : MCQ Option Shuffling : No Is Question Mandatory : No Calculator : None Response Time : N.A Think Time : N.A Minimum Instruction Time : 0

Correct Marks : 5 Wrong Marks : 1

Question Key Details :

Key	Value
Comprehension	MCQ

Which of the following is not related with "Critical point of control" concept?

- A. Control should focus on key result areas
- B. KRA's can never be set as critical points
- C. It is very easy and economical to keep a check on each and every activity of organization
- D. If anything goes wrong at the critical points the entire organization suffers
- E. In manufacturing organization, an increase of 5% in labour cost may be more troublesome than a 15% increase in postal charges

Choose the correct answer from the options given below :

- 1. A Only
- 2. C & B Only
- 3. C Only
- 4. D & E Only

Options :

- 485584145873. 1
- 485584145874. 2
- 485584145875. 3
- 485584145876. 4

Question Number : 84 Question Id : 48558436469 Question Type : MCQ Option Shuffling : No Is Question Mandatory : No Calculator : None Response Time : N.A Think Time : N.A Minimum Instruction Time : 0

Correct Marks : 5 Wrong Marks : 1

Question Key Details :

Key	Value
Comprehension	MCQ

"கட்டுப்பாட்டில் இக்கட்டான புள்ளி" கீழ் உள்ளவற்றுள் எவை சரியானவை இல்லை.

- A. கட்டுப்பாடு விளைவுகளின் பலன்களை நோக்கியே உள்ளது.
- B. KRA இக்கட்டான புள்ளியாக முடியாது
- C. நிறுவனத்தின் ஒவ்வொரு செயல்களையும், சோதனை செய்வது பொருளாதார ரீதியாக சுலபமாக உள்ளது
- D. தவறுதலாக அனைத்தும் இக்கட்டான புள்ளியில் செல்லும்போது நிறுவனம் முழுவதும் பாதிக்கப்படுகிறது
- E. உற்பத்தி நிறுவனங்கள் தொழிலாளர்களின் கூலி அடக்கத்தை 5% உயர்த்தும்போது 15% தபால் செலவைக் காட்டிலும் அதிகரிக்கின்றது.

கீழே தரப்பட்டுள்ள வாய்ப்புகளில் இருந்து சரியான விடையைத் தேர்ந்தெடுக்கவும்:

- 1. A மட்டும்
- 2. C & B மட்டும்
- 3. C மட்டும்
- 4. D & E மட்டும்

Options :

- 485584145873. 1
- 485584145874. 2
- 485584145875. 3
- 485584145876. 4

Question Number : 85 Question Id : 48558436470 Question Type : MCQ Option Shuffling : No Is Question Mandatory : No Calculator : None Response Time : N.A Think Time : N.A Minimum Instruction Time : 0

Correct Marks : 5 Wrong Marks : 1

Question Key Details :

Key	Value
Comprehension	MCQ

What are the aspects of feasibility analysis under Entrepreneurship Development ?

- A. Technical Aspect
- B. Economic Aspect
- C. Financial Aspect
- D. Commercial Aspect
- E. Political Aspect

Choose the correct answer from the options given below :

- 1. A, B and C Only
- 2. A, B, D and E Only
- 3. A and B Only
- 4. A, B, C and D Only

Options :

485584145877. 1
485584145878. 2
485584145879. 3
485584145880. 4

Question Number : 85 Question Id : 48558436470 Question Type : MCQ Option Shuffling : No Is Question Mandatory : No Calculator : None Response Time : N.A Think Time : N.A Minimum Instruction Time : 0

Correct Marks : 5 Wrong Marks : 1

Question Key Details :

Key	Value
Comprehension	MCQ

தொழில் முனைவோர் வளர்ச்சியில் சாத்தியக்கூற்று பகுப்பாய்வு எந்த அடிப்படையில் நடைபெறுகின்றது?

- A. தொழிநுட்ப அடிப்படையில்
B. பொருளாதார அடிப்படையில்
C. நிதி அடிப்படையில்
D. வர்த்தக அடிப்படையில்
E. அரசியல் அடிப்படையில்

கீழே தரப்பட்டுள்ள வாய்ப்புகளில் இருந்து சரியான விடையைத் தேர்ந்தெடுக்கவும்:

1. A, B மற்றும் C மட்டும்
2. A, B, D மற்றும் E மட்டும்
3. A மற்றும் B மட்டும்
4. A, B, C மற்றும் D மட்டும்

Options :

485584145877. 1
485584145878. 2
485584145879. 3
485584145880. 4

Question Number : 86 Question Id : 48558436471 Question Type : MCQ Option Shuffling : No Is Question Mandatory : No Calculator : None Response Time : N.A Think Time : N.A Minimum Instruction Time : 0

Correct Marks : 5 Wrong Marks : 1

Question Key Details :

Key	Value
Comprehension	MCQ

Match List I with List II

LIST I		LIST II	
A.	Economic environment	I.	Legislations Passed
B.	Social environment	II.	Stock market Indices
C.	Technological environment	III.	New Methods and Techniques
D.	Legal environment	IV.	Traditions

Choose the correct answer from the options given below:

1. A-IV, B-III, C-II, D-I
2. A-II, B-IV, C-III, D-I
3. A-II, B-III, C-IV, D-I
4. A-II, B-I, C-III, D-IV

Options :

485584145881. 1
485584145882. 2
485584145883. 3
485584145884. 4

Question Number : 86 Question Id : 48558436471 Question Type : MCQ Option Shuffling : No Is Question Mandatory : No Calculator : None Response Time : N.A Think Time : N.A Minimum Instruction Time : 0

Correct Marks : 5 Wrong Marks : 1

Question Key Details :

Key	Value
Comprehension	MCQ

பட்டியல் I ஐ பட்டியல் II உடன் பொருத்துக

பட்டியல் I		பட்டியல் II	
A.	பொருளாதார சூழல்	I.	நாடாளுமன்ற முடிவு
B.	சமூக சூழல்	II.	பங்கு சந்தை குறியீடு
C.	தொழில்நுட்ப சூழல்	III.	புதுமையான முறைகள் உத்திகள்
D.	சட்ட சூழல்	IV.	பண்டைய முறை

கீழே தரப்பட்டுள்ள வாய்ப்புகளில் இருந்து சரியான விடையைத் தேர்ந்தெடுக்கவும்:

1. A-IV, B-III, C-II, D-I
2. A-II, B-IV, C-III, D-I
3. A-II, B-III, C-IV, D-I
4. A-II, B-I, C-III, D-IV

Options :

485584145881. 1

485584145882. 2
485584145883. 3
485584145884. 4

Question Number : 87 Question Id : 48558436472 Question Type : MCQ Option Shuffling : No Is Question Mandatory : No Calculator : None Response Time : N.A Think Time : N.A Minimum Instruction Time : 0

Correct Marks : 5 Wrong Marks : 1

Question Key Details :

Key	Value
Comprehension	MCQ

Match List I with List II

LIST I		LIST II	
A.	Objectives	I.	General Statements
B.	Strategy	II.	Routine steps
C.	Policy	III.	Comprehensive plan
D.	Procedure	IV.	End point of planning

Choose the correct answer from the options given below:

1. A-IV, B-III, C-II, D-I
2. A-IV, B-II, C-III, D-I
3. A-IV, B-I, C-III, D-II
4. A-IV, B-III, C-I, D-II

Options :

485584145885. 1
485584145886. 2
485584145887. 3
485584145888. 4

Question Number : 87 Question Id : 48558436472 Question Type : MCQ Option Shuffling : No Is Question Mandatory : No Calculator : None Response Time : N.A Think Time : N.A Minimum Instruction Time : 0

Correct Marks : 5 Wrong Marks : 1

Question Key Details :

Key	Value
Comprehension	MCQ

பட்டியல் I ஐ பட்டியல் II உடன் பொருத்துக

பட்டியல் I		பட்டியல் II	
A.	நோக்கம்	I.	பொது அறிக்கை
B.	உத்தி	II.	வழக்கமான நடைமுறை
C.	கொள்கை	III.	கூட்டு திட்டம்
D.	நடைமுறை	IV.	திட்டமிடலின் கடைசி புள்ளி

கீழே தரப்பட்டுள்ள வாய்ப்புகளில் இருந்து சரியான விடையைத் தேர்ந்தெடுக்கவும்:

1. A-IV, B-III, C-II, D-I
2. A-IV, B-II, C-III, D-I
3. A-IV, B-I, C-III, D-II
4. A-IV, B-III, C-I, D-II

Options :

485584145885. 1
485584145886. 2
485584145887. 3
485584145888. 4

Question Number : 88 Question Id : 48558436473 Question Type : MCQ Option Shuffling : No Is Question Mandatory : No Calculator : None Response Time : N.A Think Time : N.A Minimum Instruction Time : 0

Correct Marks : 5 Wrong Marks : 1

Question Key Details :

Key	Value
Comprehension	MCQ

Match List I with List II

LIST I (Controlling Process)		LIST II (Related Concept)	
A.	Analysing deviations	I.	It demands managerial attention
B.	Taking corrective action	II.	It becomes easy when quantitative terms are used
C.	Comparison of standard with actuals	III.	To determine acceptable range of deviations
D.	Setting performance standards	IV.	Serves as benchmarks towards which an organization strives to work

Choose the correct answer from the options given below:

1. A-I, B-III, C-II, D-IV
2. A-III, B-I, C-II, D-IV
3. A-III, B-II, C-I, D-IV
4. A-IV, B-III, C-II, D-I

Options :

485584145889. 1
485584145890. 2
485584145891. 3
485584145892. 4

Question Number : 88 Question Id : 48558436473 Question Type : MCQ Option Shuffling : No Is Question Mandatory :
No Calculator : None Response Time : N.A Think Time : N.A Minimum Instruction Time : 0

Correct Marks : 5 Wrong Marks : 1

Question Key Details :

Key	Value
Comprehension	MCQ

பட்டியல் I ஐ பட்டியல் II உடன் பொருத்துக

பட்டியல் I (கட்டுப்பாட்டு நடைமுறை)		பட்டியல் II (தொடர்புடைய செயல்)	
A.	விலகல்களை பகுப்பாய்வு செய்தல்	I.	தேவையின் குறைந்தபட்ச கவனம்
B.	சரியான செயலை எடுப்பது	II.	எண்ணிக்கையிலான பதம் பயன்படுத்துவதால் சுலபமாக உள்ளது
C.	நிலையானவற்றையும் சாதாரணத்தையும் ஒப்பிமைப்படுத்துவது	III.	எற்றுக்கொள்ளக்கூடிய வேறுபாடுகளின் முடிவு
D.	தரமான செயல் வெளிப்பாட்டை நிர்மாணிப்பது	IV.	நிறுவனங்களில் வேலையை தக்க வைப்பதில் உள்ள வரையளவு எதை நோக்கியது

கீழே தரப்பட்டுள்ள வாய்ப்புகளில் இருந்து சரியான விடையைத் தேர்ந்தெடுக்கவும்:

1. A-I, B-III, C-II, D-IV
2. A-III, B-I, C-II, D-IV
3. A-III, B-II, C-I, D-IV
4. A-IV, B-III, C-II, D-I

Options :

485584145889. 1
485584145890. 2
485584145891. 3
485584145892. 4

Question Number : 89 Question Id : 48558436474 Question Type : MCQ Option Shuffling : No Is Question Mandatory :
No Calculator : None Response Time : N.A Think Time : N.A Minimum Instruction Time : 0

Correct Marks : 5 Wrong Marks : 1

Question Key Details :

Key	Value
Comprehension	MCQ

Match List I with List II

LIST I		LIST II	
A.	Interest Coverage Ratio	I.	Rate of return
B.	Choice of Technique	II.	Fixed Capital
C.	Credit Allowed	III.	Capital structure
D.	Capital budgeting decisions	IV.	Working Capital

Choose the correct answer from the options given below:

1. A-II, B-III, C-IV, D-I
2. A-III, B-II, C-I, D-IV
3. A-III, B-II, C-IV, D-I
4. A-II, B-IV, C-III, D-I

Options :

485584145893. 1
485584145894. 2
485584145895. 3
485584145896. 4

Question Number : 89 Question Id : 48558436474 Question Type : MCQ Option Shuffling : No Is Question Mandatory : No Calculator : None Response Time : N.A Think Time : N.A Minimum Instruction Time : 0

Correct Marks : 5 Wrong Marks : 1

Question Key Details :

Key	Value
Comprehension	MCQ

பட்டியல் I ஐ பட்டியல் II உடன் பொருத்துக

பட்டியல் I		பட்டியல் II	
A.	வட்டி கவரேஜ் விகிதம்	I.	வருவாய் விகிதம்
B.	நுட்பத்தின் தேர்வு	II.	நிலையான மூலதனம்
C.	கடன் அனுமதிக்கப்படுகிறது	III.	கடன் அனுமதிக்கப்படுகிறது
D.	மூலதன பட்ஜெட் முடிவுகள்	IV.	மூலதன பட்ஜெட் முடிவுகள்

கீழே தரப்பட்டுள்ள வாய்ப்புகளில் இருந்து சரியான விடையைத் தேர்ந்தெடுக்கவும்:

1. A-II, B-III, C-IV, D-I
2. A-III, B-II, C-I, D-IV
3. A-III, B-II, C-IV, D-I
4. A-II, B-IV, C-III, D-I

Options :

485584145893. 1
 485584145894. 2
 485584145895. 3
 485584145896. 4

Question Number : 90 Question Id : 48558436475 Question Type : MCQ Option Shuffling : No Is Question Mandatory : No Calculator : None Response Time : N.A Think Time : N.A Minimum Instruction Time : 0

Correct Marks : 5 Wrong Marks : 1

Question Key Details :

Key	Value
Comprehension	MCQ

Match List I with List II

LIST I		LIST II	
A.	Shopping Products	I.	Cigarettes, Ice cream, Medicines
B.	Speciality Products	II.	Raw materials, Engines, Lubricants
C.	Industrial Products	III.	Radio, Jewellery, Furniture
D.	Convenience Products	IV.	Salon, Restaurant, Boutique

Choose the correct answer from the options given below:

1. A-I, B-II, C-IV, D-III
2. A-III, B-I, C-II, D-IV
3. A-III, B-IV, C-II, D-I
4. A-IV, B-III, C-II, D-I

Options :

485584145897. 1
 485584145898. 2
 485584145899. 3
 485584145900. 4

Question Number : 90 Question Id : 48558436475 Question Type : MCQ Option Shuffling : No Is Question Mandatory : No Calculator : None Response Time : N.A Think Time : N.A Minimum Instruction Time : 0

Correct Marks : 5 Wrong Marks : 1

Question Key Details :

Key	Value
Comprehension	MCQ

பட்டியல் I ஐ பட்டியல் II உடன் பொருத்துக

பட்டியல் I		பட்டியல் II	
A.	ஷாப்பிங் தயாரிப்புகள்	I.	சிகரெட்டுகள், ஐஸ்கிரீம், மருந்து
B.	சிறப்பு தயாரிப்புகள்	II.	கச்சாப் பொருள்கள், எஞ்சின் உராய்வு பொருள்
C.	தொழிற்சாலை தயாரிப்புகள்	III.	வானொலி, நகைகள், மர தளவாடங்கள்
D.	வசதியான தயாரிப்புகள்	IV.	முடிதிருத்தகம், உணவு விடுதி, மிகச் சிறிய கடைகள்

கீழே தரப்பட்டுள்ள வாய்ப்புகளில் இருந்து சரியான விடையைத் தேர்ந்தெடுக்கவும்:

1. A-I, B-II, C-IV, D-III
2. A-III, B-I, C-II, D-IV
3. A-III, B-IV, C-II, D-I
4. A-IV, B-III, C-II, D-I

Options :

485584145897. 1
485584145898. 2
485584145899. 3
485584145900. 4

Sub-Section Number :

2

Sub-Section Id :

4855842694

Question Shuffling Allowed :

No

Is Section Default? :

null

Question Number : 91 Question Id : 48558436476 Question Type : MCQ Option Shuffling : No Is Question Mandatory : No Calculator : None Response Time : N.A Think Time : N.A Minimum Instruction Time : 0

Correct Marks : 5 Wrong Marks : 1

Question Key Details :

Key	Value
Comprehension	Comp1

Mr. Rehan has done a diploma in Financial market and its participants. Recently he got a chance to present his knowledge and train students in a school. He told students about various money market instruments. He mentioned about an instrument which is issued by R.B.I on behalf of Central Government. He told students that Banks use a system to borrow money (an instrument) to manage their CRR i.e Cash Reserve Ratio. Later, he mentioned a short term self liquidating instrument like Bills of Exchange that can be used for arranging working capital. He also told students about an instrument that helps to mobilise large amounts of money in short period by commercial banks. Lastly, Mr. Rehan spoke about an instrument that works as a replacement towards bank borrowing for large credit-worthy companies, its maturity period is 15 days to one year.

"He mentioned about an Instrument which is issued by RBI on behalf of Central Government" .

Identify the Money instrument to which the above given line is related to.

1. Call money
2. Commercial Papers
3. Treasury Bills
4. Commercial Bills

Options :

485584145901. 1
485584145902. 2
485584145903. 3
485584145904. 4

Question Number : 91 Question Id : 48558436476 Question Type : MCQ Option Shuffling : No Is Question Mandatory : No Calculator : None Response Time : N.A Think Time : N.A Minimum Instruction Time : 0

Correct Marks : 5 Wrong Marks : 1

Question Key Details :

Key	Value
Comprehension	Comp1

திரு. ரெஹன் நிதி சந்தை மற்றும் அதன் பங்கேற்பாளர்களில் டிப்ளோமா முடித்துள்ளார். சமீபத்தில் ஒரு பள்ளியில் தனது அறிவை வெளிப்படுத்தவும் மாணவர்களுக்கு பயிற்சியளிக்கவும் அவருக்கு வாய்ப்பு கிடைத்தது. பல்வேறு பணச்சந்தை கருவிகள் குறித்து மாணவர்களுக்கு எடுத்துரைத்தார். மதிய அரசின் சார்பில் ரிசர்வ் வங்கியால் வழங்கப்படும் ஒரு கருவியைப்பற்றி அவர் குறிப்பிட்டார். வங்கிகள் தங்கள் CRR- ஐ நிர்வகிக்க கடன் வாங்க ஒரு முறையைப் பயன்படுத்துகின்றன. அதாவது ரொக்க இருப்பு விகிதம். பின்னர் அவர் செயல்பாட்டு மூலதனத்தைப் பயன்படுத்தக்கூடிய பரிமாற்ற ரசீதுகள் போன்ற குறுகிய கால சுய -கலைப்பு கருவியை குறிப்பிட்டார். வணிக வங்கிகள் மூலம் குறுகிய காலத்தில் அதிக அளவு பணத்தைத் திரட்ட உதவும் கருவி பற்றியும் அவர் மாணவர்களிடம் கூறினார். இறுதியாக ரெஹான் வங்கிக் கடன் தகுதியுள்ள நிறுவனங்களுக்கு மாற்றாக செயல்படும் ஒரு கருவியை பற்றி பேசினார். அதன் முதிர்வு காலம் 15 நாட்கள் முதல் ஒரு வருடம் வரையாகும்.

"மத்திய அரசாங்கத்தின் சார்பாக RBI எந்த மாஇரியான பணக் கருவியை பயன்படுத்துகிறது என்பது குறித்து அவர் தெரிவித்தார்" .

கீழ் உள்ளவற்றில் எந்த பணக் கருவி தொடர்புடையது என்பதைக் கண்டறியவும்?

1. கேட்பு பணம் (Call money)
2. வியாபார தாள்கள்
3. கருவூல பில்
4. வியாபார பில்கள்

Options :

485584145901. 1
485584145902. 2
485584145903. 3
485584145904. 4

Question Number : 92 Question Id : 48558436477 Question Type : MCQ Option Shuffling : No Is Question Mandatory : No Calculator : None Response Time : N.A Think Time : N.A Minimum Instruction Time : 0

Correct Marks : 5 Wrong Marks : 1

Question Key Details :

Key	Value
Comprehension	Comp1

Mr. Rehan has done a diploma in Financial market and its participants. Recently he got a chance to present his knowledge and train students in a school. He told students about various money market instruments. He mentioned about an instrument which is issued by R.B.I on behalf of Central Government. He told students that Banks use a system to borrow money (an instrument) to manage their CRR i.e Cash Reserve Ratio. Later, he mentioned a short term self liquidating instrument like Bills of Exchange that can be used for arranging working capital. He also told students about an instrument that helps to mobilise large amounts of money in short period by commercial banks. Lastly, Mr. Rehan spoke about an instrument that works as a replacement towards bank borrowing for large credit-worthy companies, its maturity period is 15 days to one year.

He told that Banks use a system to borrow money (an instrument) to manage their cash Reserve Ratio.

Which security amongst money market Instrument is mentioned here.

1. Call money
2. Commercial papers
3. Treasury bills
4. Commercial Bills

Options :

485584145905. 1
485584145906. 2
485584145907. 3

Question Number : 92 Question Id : 48558436477 Question Type : MCQ Option Shuffling : No Is Question Mandatory : No Calculator : None Response Time : N.A Think Time : N.A Minimum Instruction Time : 0

Correct Marks : 5 Wrong Marks : 1

Question Key Details :

Key	Value
Comprehension	Comp1

திரு. ரெஹன் நிதி சந்தை மற்றும் அதன் பங்கேற்பாளர்களில் டிப்ளோமா முடித்துள்ளார். சமீபத்தில் ஒரு பள்ளியில் தனது அறிவை வெளிப்படுத்தவும் மாணவர்களுக்கு பயிற்சியளிக்கவும் அவருக்கு வாய்ப்பு கிடைத்தது. பல்வேறு பணச்சந்தை கருவிகள் குறித்து மாணவர்களுக்கு எடுத்துரைத்தார். மதிய அரசின் சார்பில் ரிசர்வ் வங்கியால் வழங்கப்படும் ஒரு கருவியைப்பற்றி அவர் குறிப்பிட்டார். வங்கிகள் தங்கள் CRR- ஐ நிர்வகிக்க கடன் வாங்க ஒரு முறையைப் பயன்படுத்துகின்றன. அதாவது ரொக்க இருப்பு விகிதம். பின்னர் அவர் செயல்பாட்டு மூலதனத்தைப் பயன்படுத்தக்கூடிய பரிமாற்ற ரசீதுகள் போன்ற குறுகிய கால சுய -கலைப்பு கருவியை குறிப்பிட்டார். வணிக வங்கிகள் மூலம் குறுகிய காலத்தில் அதிக அளவு பணத்தைத் திரட்ட உதவும் கருவி பற்றியும் அவர் மாணவர்களிடம் கூறினார். இறுதியாக ரெஹான் வங்கிக் கடன் தகுதியுள்ள நிறுவனங்களுக்கு மாற்றாக செயல்படும் ஒரு கருவியை பற்றி பேசினார். அதன் முதிர்வு காலம் 15 நாட்கள் முதல் ஒரு வருடம் வரையாகும்.

பணப் பாதுகாப்பு விகிதத்தை நிர்வகிப்பதற்கு வங்கிகள் எந்த மாதிரியான பண கருவிகளை கையாளுகின்றன.

பண சந்தை கருவிகளில் கீழ் உள்ளவை எது:

1. கேட்பு பணம் (Call money)
2. வியாபாரத் தாள்கள்
3. கருவூல பில்கள்
4. வர்த்தக பில்கள்

Options :

485584145905. 1
485584145906. 2
485584145907. 3
485584145908. 4

Question Number : 93 Question Id : 48558436478 Question Type : MCQ Option Shuffling : No Is Question Mandatory : No Calculator : None Response Time : N.A Think Time : N.A Minimum Instruction Time : 0

Correct Marks : 5 Wrong Marks : 1

Question Key Details :

Key	Value
Comprehension	Comp1

Mr. Rehan has done a diploma in Financial market and its participants. Recently he got a chance to present his knowledge and train students in a school. He told students about various money market instruments. He mentioned about an instrument which is issued by R.B.I on behalf of Central Government. He told students that Banks use a system to borrow money (an instrument) to manage their CRR i.e Cash Reserve Ratio. Later, he mentioned a short term self liquidating instrument like Bills of Exchange that can be used for arranging working capital. He also told students about an instrument that helps to mobilise large amounts of money in short period by commercial banks. Lastly, Mr. Rehan spoke about an instrument that works as a replacement towards bank borrowing for large credit-worthy companies, its maturity period is 15 days to one year.

"A short term self liquidating like Bills of Exchange than can be used for arranging working capital".

Which Money Market instrument, was Mr. Rehan referring to?

1. Call money
2. Certificate of Deposit
3. Commercial bills
4. Commercial papers

Options :

485584145909. 1
 485584145910. 2
 485584145911. 3
 485584145912. 4

Question Number : 93 Question Id : 48558436478 Question Type : MCQ Option Shuffling : No Is Question Mandatory : No Calculator : None Response Time : N.A Think Time : N.A Minimum Instruction Time : 0

Correct Marks : 5 Wrong Marks : 1

Question Key Details :

Key	Value
Comprehension	Comp1

திரு.ரெஹான் நிதி சந்தை மற்றும் அதன் பங்கேற்பாளர்களில் டிப்ளோமா முடித்துள்ளார். சமீபத்தில் ஒரு பள்ளியில் தனது அறிவை வெளிப்படுத்தவும் மாணவர்களுக்கு பயிற்சியளிக்கவும் அவருக்கு வாய்ப்பு கிடைத்தது. பல்வேறு பணச்சந்தை கருவிகள் குறித்து மாணவர்களுக்கு எடுத்துரைத்தார். மதிய அரசின் சார்பில் ரிசர்வ் வங்கியால் வழங்கப்படும் ஒரு கருவியைப்பற்றி அவர் குறிப்பிட்டார். வங்கிகள் தங்கள் CRR- ஐ நிர்வகிக்க கடன் வாங்க ஒரு முறையைப் பயன்படுத்துகின்றன. அதாவது ரொக்க இருப்பு விகிதம். பின்னர் அவர் செயல்பாட்டு மூலதனத்தைப் பயன்படுத்தக்கூடிய பரிமாற்ற ரசீதுகள் போன்ற குறுகிய கால சுய -கலைப்பு கருவியை குறிப்பிட்டார். வணிக வங்கிகள் மூலம் குறுகிய காலத்தில் அதிக அளவு பணத்தைத் திரட்ட உதவும் கருவி பற்றியும் அவர் மாணவர்களிடம் கூறினார். இறுதியாக ரெஹான் வங்கிக் கடன் தகுதியுள்ள நிறுவனங்களுக்கு மாற்றாக செயல்படும் ஒரு கருவியை பற்றி பேசினார். அதன் முதிர்வு காலம் 15 நாட்கள் முதல் ஒரு வருடம் வரையாகும்.

"நடைமுறை மூலதனத்தை உருவாக்குவதற்கு, மாற்று சீட்டு ஓர் குறுகிய கால சுய கலைப்பு கருவியை பயன்படுகின்றது.

திரு.ரீகன் எந்த பணச் சந்தை கருவியை கூறுகின்றார் :

1. கேட்பு பணம்
2. சான்றிதழ் வைப்பு
3. வியாபார பில்கள்
4. வர்த்தக பில்கள்

Options :

485584145909. 1
485584145910. 2
485584145911. 3
485584145912. 4

Question Number : 94 Question Id : 48558436479 Question Type : MCQ Option Shuffling : No Is Question Mandatory : No Calculator : None Response Time : N.A Think Time : N.A Minimum Instruction Time : 0

Correct Marks : 5 Wrong Marks : 1

Question Key Details :

Key	Value
Comprehension	Comp1

Mr. Rehan has done a diploma in Financial market and its participants. Recently he got a chance to present his knowledge and train students in a school. He told students about various money market instruments. He mentioned about an instrument which is issued by R.B.I on behalf of Central Government. He told students that Banks use a system to borrow money (an instrument) to manage their CRR i.e Cash Reserve Ratio. Later, he mentioned a short term self liquidating instrument like Bills of Exchange that can be used for arranging working capital. He also told students about an instrument that helps to mobilise large amounts of money in short period by commercial banks. Lastly, Mr. Rehan spoke about an instrument that works as a replacement towards bank borrowing for large credit-worthy companies, its maturity period is 15 days to one year.

"An instrument that helps to mobilise large amounts of money in short period by commercial banks".

Identify the money market instrument stated above :

1. Certificate of Deposit
2. Call money
3. Commercial bills
4. Treasury bills

Options :

485584145913. 1
485584145914. 2

485584145915. 3

485584145916. 4

Question Number : 94 Question Id : 48558436479 Question Type : MCQ Option Shuffling : No Is Question Mandatory : No Calculator : None Response Time : N.A Think Time : N.A Minimum Instruction Time : 0

Correct Marks : 5 Wrong Marks : 1

Question Key Details :

Key	Value
Comprehension	Comp1

திரு.ரெஹன் நிதி சந்தை மற்றும் அதன் பங்கேற்பாளர்களில் டிப்ளோமா முடித்துள்ளார். சமீபத்தில் ஒரு பள்ளியில் தனது அறிவை வெளிப்படுத்தவும் மாணவர்களுக்கு பயிற்சியளிக்கவும் அவருக்கு வாய்ப்பு கிடைத்தது. பல்வேறு பணச்சந்தை கருவிகள் குறித்து மாணவர்களுக்கு எடுத்துரைத்தார். மதிய அரசின் சார்பில் ரிசர்வ் வங்கியால் வழங்கப்படும் ஒரு கருவியைப்பற்றி அவர் குறிப்பிட்டார். வங்கிகள் தங்கள் CRR- ஐ நிர்வகிக்க கடன் வாங்க ஒரு முறையைப் பயன்படுத்துகின்றன. அதாவது ரொக்க இருப்பு விகிதம். பின்னர் அவர் செயல்பாட்டு மூலதனத்தைப் பயன்படுத்தக்கூடிய பரிமாற்ற ரசீதுகள் போன்ற குறுகிய கால சுய -கலைப்பு கருவியை குறிப்பிட்டார். வணிக வங்கிகள் மூலம் குறுகிய காலத்தில் அதிக அளவு பணத்தைத் திரட்ட உதவும் கருவி பற்றியும் அவர் மாணவர்களிடம் கூறினார். இறுதியாக ரெஹான் வங்கிக் கடன் தகுதியுள்ள நிறுவனங்களுக்கு மாற்றாக செயல்படும் ஒரு கருவியை பற்றி பேசினார். அதன் முதிர்வு காலம் 15 நாட்கள் முதல் ஒரு வருடம் வரையாகும்.

"வணிக வங்கிகள், குறுகிய காலங்களில் அதிக அளவில் பணத்தை திரட்டுவதற்கு எந்த வகையான கருவியை பயன்படுத்துகின்றது".

"எந்தவகையான பண சந்தை கருவிகள்:

1. சான்றிதழ் வைப்பு
2. கேட்பு பணம்
3. வியாபார பில்கள்
4. கருவூல பில்கள்

Options :

485584145913. 1

485584145914. 2

485584145915. 3

485584145916. 4

Question Number : 95 Question Id : 48558436480 Question Type : MCQ Option Shuffling : No Is Question Mandatory : No Calculator : None Response Time : N.A Think Time : N.A Minimum Instruction Time : 0

Correct Marks : 5 Wrong Marks : 1

Question Key Details :

Key	Value
-----	-------

Mr. Rehan has done a diploma in Financial market and its participants. Recently he got a chance to present his knowledge and train students in a school. He told students about various money market instruments. He mentioned about an instrument which is issued by R.B.I on behalf of Central Government. He told students that Banks use a system to borrow money (an instrument) to manage their CRR i.e Cash Reserve Ratio. Later, he mentioned a short term self liquidating instrument like Bills of Exchange that can be used for arranging working capital. He also told students about an instrument that helps to mobilise large amounts of money in short period by commercial banks. Lastly, Mr. Rehan spoke about an instrument that works as a replacement towards bank borrowing for large credit-worthy companies, its maturity period is 15 days to one year.

"An instrument that works as a replacement towards bank borrowing for large Credit-worthy companies, its maturity period is 15 days to one year".

Identify the money market instrument stated in the above lines.

1. Call money
2. Commercial papers
3. Commercial bills
4. Certificate of Deposit

Options :

485584145917. 1
 485584145918. 2
 485584145919. 3
 485584145920. 4

Question Number : 95 Question Id : 48558436480 Question Type : MCQ Option Shuffling : No Is Question Mandatory : No Calculator : None Response Time : N.A Think Time : N.A Minimum Instruction Time : 0

Correct Marks : 5 Wrong Marks : 1

Question Key Details :

Key	Value
Comprehension	Comp1

திரு.ரெஹன் நிதி சந்தை மற்றும் அதன் பங்கேற்பாளர்களில் டிப்ளோமா முடித்துள்ளார். சமீபத்தில் ஒரு பள்ளியில் தனது அறிவை வெளிப்படுத்தவும் மாணவர்களுக்கு பயிற்சியளிக்கவும் அவருக்கு வாய்ப்பு கிடைத்தது. பல்வேறு பணச்சந்தை கருவிகள் குறித்து மாணவர்களுக்கு எடுத்துரைத்தார். மதிய அரசின் சார்பில் ரிசர்வ் வங்கியால் வழங்கப்படும் ஒரு கருவியைப்பற்றி அவர் குறிப்பிட்டார். வங்கிகள் தங்கள் CRR- ஐ நிர்வகிக்க கடன் வாங்க ஒரு முறையைப் பயன்படுத்துகின்றன. அதாவது ரொக்க இருப்பு விகிதம். பின்னர் அவர் செயல்பாட்டு மூலதனத்தைப் பயன்படுத்தக்கூடிய பரிமாற்ற ரசீதுகள் போன்ற குறுகிய கால சுய -கலைப்பு கருவியை குறிப்பிட்டார். வணிக வங்கிகள் மூலம் குறுகிய காலத்தில் அதிக அளவு பணத்தைத் திரட்ட உதவும் கருவி பற்றியும் அவர் மாணவர்களிடம் கூறினார். இறுதியாக ரெஹான் வங்கிக் கடன் தகுதியுள்ள நிறுவனங்களுக்கு மாற்றாக செயல்படும் ஒரு கருவியை பற்றி பேசினார். அதன் முதிர்வு காலம் 15 நாட்கள் முதல் ஒரு வருடம் வரையாகும்.

"பணக் கருவிகள், பெரிய அளவிலான அதிக வரவு மதிப்புள்ள நிறுவனங்களுக்கு எவ்வாறு கடன் பெறுவதற்கு மாற்றாக அமைக்கின்றது. அவற்றின் முதிர்வு காலம் 15 நாட்களில் இருந்து ஓர் ஆண்டு வரை".

மேற்கூறியவற்றில் பணச்சந்தை கருவி எதைக் குறிக்கின்றது என்பதைக் கண்டறிக.

1. கேட்பு பணம்
2. வர்த்தக தாள்கள்
3. வியாபார பில்கள்
4. சான்றிதழ் வைப்புகள்

Options :

485584145917. 1

485584145918. 2

485584145919. 3

485584145920. 4

Sub-Section Number :

3

Sub-Section Id :

4855842695

Question Shuffling Allowed :

No

Is Section Default? :

null

Question Number : 96 Question Id : 48558436481 Question Type : MCQ Option Shuffling : No Is Question Mandatory : No Calculator : None Response Time : N.A Think Time : N.A Minimum Instruction Time : 0

Correct Marks : 5 Wrong Marks : 1

Question Key Details :

Key	Value
Comprehension	Comp2

Safex Ltd is a company manufacturing masks. The newly appointed marketing manager of the firm has taken 'Covid Pandemic' as an opportunity to increase sales. He used a combination of tools to achieve its communication objective. He constituted 4 teams for designing these tools.

Team 1 :- The tool used by them was an impersonal form of communication which was paid for.

Team 2:- The tool used by them involves oral presentation of message in the form of conversation with one or more prospective customers for the purpose of making sales

Team 3:- This team used short-term incentives which were designed to encourage the buyers to make immediate purchase.

Team 4:- This team used a non-personal form of communication which was non-paid.

All the teams successfully designed their tools and achieved their desired results.

The variable of marketing mix discussed in the above case is _____

1. Product mix
2. Place mix
3. Price mix
4. Promotion mix

Options :

- 485584145921. 1
- 485584145922. 2
- 485584145923. 3
- 485584145924. 4

Question Number : 96 Question Id : 48558436481 Question Type : MCQ Option Shuffling : No Is Question Mandatory : No Calculator : None Response Time : N.A Think Time : N.A Minimum Instruction Time : 0

Correct Marks : 5 Wrong Marks : 1

Question Key Details :

Key	Value
Comprehension	Comp2

செபெஸ் லியிடெட் நிறுவனம் முக கவசங்களை உற்பத்தி செய்கின்றது. புதிதாக பணியமர்த்தப்பட்ட சந்தை மேலாளர் "கோவிட் பெருந்தொற்று" விற்பனையை அதிகரிக்கும் வாய்ப்பு என்கின்ற நோக்கத்தை அடைய சில கருவிகளை பயன்படுத்துகின்றனர். 4-குழுக்களை உருவாக்குகின்றார்.

குழு 1: ஒவ்வொருவரிடமும் சென்று சொல்லி பெறுவது.

குழு 2: விற்பனையை அதிகப்படுத்த வாய்மொழியாக கூறி ஒன்று அல்லது அதற்கு மேற்பட்ட வாடிக்கையாளர்களை வாங்க செய்வது.

குழு 3: இந்த குழு மக்களை வாங்க வைப்பதற்கு குறுகிய கால ஊக்கம் கொடுத்து உடனடியாக வாங்க வைப்பது.

குழு 4: இந்த குழு நேரடியாக சென்று சொல்வதும் இல்லை பணம் பெறுவதும் இல்லை.

அனைத்து குழுக்களும் சரியாக வடிவமைக்கப்பட்டு அதன் நோக்கத்தை அடைந்துள்ளது.

மேற்கூறியவற்றில் எந்த சந்தை கலவை பேசப்படுகிறது

1. பொருட் கலவை
2. இடக் கலவை
3. விலைக் கலவை
4. உயர்வு கலவை

Options :

485584145921. 1
485584145922. 2
485584145923. 3
485584145924. 4

Question Number : 97 Question Id : 48558436482 Question Type : MCQ Option Shuffling : No Is Question Mandatory : No Calculator : None Response Time : N.A Think Time : N.A Minimum Instruction Time : 0

Correct Marks : 5 Wrong Marks : 1

Question Key Details :

Key	Value
Comprehension	Comp2

Safex Ltd is a company manufacturing masks. The newly appointed marketing manager of the firm has taken 'Covid Pandemic' as an opportunity to increase sales. He used a combination of tools to achieve its communication objective. He constituted 4 teams for designing these tools.

Team 1 :- The tool used by them was an impersonal form of communication which was paid for.

Team 2:- The tool used by them involves oral presentation of message in the form of conversation with one or more prospective customers for the purpose of making sales

Team 3:- This team used short-term incentives which were designed to encourage the buyers to make immediate purchase.

Team 4:- This team used a non-personal form of communication which was non-paid.

All the teams successfully designed their tools and achieved their desired results.

The tool used by Team 3 was _____

1. Public relations
2. Sales promotion
3. Publicity
4. Branding

Options :

485584145925. 1

485584145926. 2

485584145927. 3

485584145928. 4

Question Number : 97 Question Id : 48558436482 Question Type : MCQ Option Shuffling : No Is Question Mandatory : No Calculator : None Response Time : N.A Think Time : N.A Minimum Instruction Time : 0

Correct Marks : 5 Wrong Marks : 1

Question Key Details :

Key	Value
Comprehension	Comp2

செபெஸ் லிமிடெட் நிறுவனம் முக கவசங்களை உற்பத்தி செய்கின்றது. புதிதாக பணியமர்த்தப்பட்ட சந்தை மேலாளர் "கோவிட் பெருந்தொற்று" விற்பனையை அதிகரிக்கும் வாய்ப்பு என்கின்ற நோக்கத்தை அடைய சில கருவிகளை பயன்படுத்துகின்றனர். 4-குழுக்களை உருவாக்குகின்றார்.

குழு 1: ஒவ்வொருவரிடமும் சென்று சொல்லி பெறுவது.

குழு 2: விற்பனையை அதிகப்படுத்த வாய்மொழியாக கூறி ஒன்று அல்லது அதற்கு மேற்பட்ட வாடிக்கையாளர்களை வாங்க செய்வது.

குழு 3: இந்த குழு மக்களை வாங்க வைப்பதற்கு குறுகிய கால ஊக்கம் கொடுத்து உடனடியாக வாங்க வைப்பது.

குழு 4: இந்த குழு நேரடியாக சென்று சொல்வதும் இல்லை பணம் பெறுவதும் இல்லை.

அனைத்து குழுக்களும் சரியாக வடிவமைக்கப்பட்டு அதன் நோக்கத்தை அடைந்துள்ளது.

மூன்றாவது குழு பயன்படுத்திய கருவி _____.

1. மக்கள் தொடர்பு
2. விற்பனை உயர்வு
3. கவன ஈர்ப்பு
4. தர வகைகள்

Options :

485584145925. 1
485584145926. 2
485584145927. 3
485584145928. 4

Question Number : 98 Question Id : 48558436483 Question Type : MCQ Option Shuffling : No Is Question Mandatory : No Calculator : None Response Time : N.A Think Time : N.A Minimum Instruction Time : 0

Correct Marks : 5 Wrong Marks : 1

Question Key Details :

Key	Value
Comprehension	Comp2

Safex Ltd is a company manufacturing masks. The newly appointed marketing manager of the firm has taken 'Covid Pandemic' as an opportunity to increase sales. He used a combination of tools to achieve its communication objective. He constituted 4 teams for designing these tools.

Team 1 :- The tool used by them was an impersonal form of communication which was paid for.

Team 2:- The tool used by them involves oral presentation of message in the form of conversation with one or more prospective customers for the purpose of making sales

Team 3:- This team used short-term incentives which were designed to encourage the buyers to make immediate purchase.

Team 4:- This team used a non-personal form of communication which was non-paid.

All the teams successfully designed their tools and achieved their desired results.

The tool used by Team 4 is _____

1. Packaging
2. Advertising
3. Publicity
4. Sales promotion

Options :

485584145929. 1

485584145930. 2

485584145931. 3

485584145932. 4

Question Number : 98 Question Id : 48558436483 Question Type : MCQ Option Shuffling : No Is Question Mandatory : No Calculator : None Response Time : N.A Think Time : N.A Minimum Instruction Time : 0

Correct Marks : 5 Wrong Marks : 1

Question Key Details :

Key	Value
Comprehension	Comp2

செபெஸ் லிமிடெட் நிறுவனம் முக கவசங்களை உற்பத்தி செய்கின்றது. புதிதாக பணியமர்த்தப்பட்ட சந்தை மேலாளர் "கோவிட் பெருந்தொற்று" விற்பனையை அதிகரிக்கும் வாய்ப்பு என்கின்ற நோக்கத்தை அடைய சில கருவிகளை பயன்படுத்துகின்றனர். 4-குழுக்களை உருவாக்குகின்றார்.

குழு 1: ஒவ்வொருவரிடமும் சென்று சொல்லி பெறுவது.

குழு 2: விற்பனையை அதிகப்படுத்த வாய்மொழியாக கூறி ஒன்று அல்லது அதற்கு மேற்பட்ட வாடிக்கையாளர்களை வாங்க செய்வது.

குழு 3: இந்த குழு மக்களை வாங்க வைப்பதற்கு குறுகிய கால ஊக்கம் கொடுத்து உடனடியாக வாங்க வைப்பது.

குழு 4: இந்த குழு நேரடியாக சென்று சொல்வதும் இல்லை பணம் பெறுவதும் இல்லை.

அனைத்து குழுக்களும் சரியாக வடிவமைக்கப்பட்டு அதன் நோக்கத்தை அடைந்துள்ளது.

குழு 4 பயன்படுத்திய கருவி _____

1. பொட்டலமிடுதல்
2. விளம்பரப்படுத்துதல்
3. கவன ஈர்ப்பு
4. விற்பனை உயர்வு

Options :

485584145929. 1
485584145930. 2
485584145931. 3
485584145932. 4

Question Number : 99 Question Id : 48558436484 Question Type : MCQ Option Shuffling : No Is Question Mandatory : No Calculator : None Response Time : N.A Think Time : N.A Minimum Instruction Time : 0

Correct Marks : 5 Wrong Marks : 1

Question Key Details :

Key	Value
Comprehension	Comp2

Safex Ltd is a company manufacturing masks. The newly appointed marketing manager of the firm has taken 'Covid Pandemic' as an opportunity to increase sales. He used a combination of tools to achieve its communication objective. He constituted 4 teams for designing these tools.

Team 1 :- The tool used by them was an impersonal form of communication which was paid for.

Team 2:- The tool used by them involves oral presentation of message in the form of conversation with one or more prospective customers for the purpose of making sales

Team 3:- This team used short-term incentives which were designed to encourage the buyers to make immediate purchase.

Team 4:- This team used a non-personal form of communication which was non-paid.

All the teams successfully designed their tools and achieved their desired results.

The tool used by Team 1 is _____

1. Advertising
2. Public relations
3. Publicity
4. Personal selling

Options :

485584145933. 1

485584145934. 2

485584145935. 3

485584145936. 4

Question Number : 99 Question Id : 48558436484 Question Type : MCQ Option Shuffling : No Is Question Mandatory : No Calculator : None Response Time : N.A Think Time : N.A Minimum Instruction Time : 0

Correct Marks : 5 Wrong Marks : 1

Question Key Details :

Key	Value
Comprehension	Comp2

செபெஸ் லிமிடெட் நிறுவனம் முக கவசங்களை உற்பத்தி செய்கின்றது. புதிதாக பணியமர்த்தப்பட்ட சந்தை மேலாளர் "கோவிட் பெருந்தொற்று" விற்பனையை அதிகரிக்கும் வாய்ப்பு என்கின்ற நோக்கத்தை அடைய சில கருவிகளை பயன்படுத்துகின்றனர். 4-குழுக்களை உருவாக்குகின்றார்.

குழு 1: ஒவ்வொருவரிடமும் சென்று சொல்லி பெறுவது.

குழு 2: விற்பனையை அதிகப்படுத்த வாய்மொழியாக கூறி ஒன்று அல்லது அதற்கு மேற்பட்ட வாடிக்கையாளர்களை வாங்க செய்வது.

குழு 3: இந்த குழு மக்களை வாங்க வைப்பதற்கு குறுகிய கால ஊக்கம் கொடுத்து உடனடியாக வாங்க வைப்பது.

குழு 4: இந்த குழு நேரடியாக சென்று சொல்வதும் இல்லை பணம் பெறுவதும் இல்லை.

அனைத்து குழுக்களும் சரியாக வடிவமைக்கப்பட்டு அதன் நோக்கத்தை அடைந்துள்ளது.

குழு 1 பயன்படுத்திய கருவி_____

1. விளம்பரம்
2. மக்கள் தொடர்பு
3. கவன ஈர்ப்பு
4. தனிப்பட்ட விற்பனை

Options :

485584145933. 1
485584145934. 2
485584145935. 3
485584145936. 4

Question Number : 100 Question Id : 48558436485 Question Type : MCQ Option Shuffling : No Is Question Mandatory : No Calculator : None Response Time : N.A Think Time : N.A Minimum Instruction Time : 0

Correct Marks : 5 Wrong Marks : 1

Question Key Details :

Key	Value
Comprehension	Comp2

Safex Ltd is a company manufacturing masks. The newly appointed marketing manager of the firm has taken 'Covid Pandemic' as an opportunity to increase sales. He used a combination of tools to achieve its communication objective. He constituted 4 teams for designing these tools.

Team 1 :- The tool used by them was an impersonal form of communication which was paid for.

Team 2:- The tool used by them involves oral presentation of message in the form of conversation with one or more prospective customers for the purpose of making sales

Team 3:- This team used short-term incentives which were designed to encourage the buyers to make immediate purchase.

Team 4:- This team used a non-personal form of communication which was non-paid.

All the teams successfully designed their tools and achieved their desired results.

The tool used by Team 2 is _____

1. Public relations
2. Personal selling
3. Advertising
4. Publicity

Options :

- 485584145937. 1
- 485584145938. 2
- 485584145939. 3
- 485584145940. 4

Question Number : 100 Question Id : 48558436485 Question Type : MCQ Option Shuffling : No Is Question Mandatory : No Calculator : None Response Time : N.A Think Time : N.A Minimum Instruction Time : 0

Correct Marks : 5 Wrong Marks : 1

Question Key Details :

Key	Value
Comprehension	Comp2

செபெஸ் லிமிடெட் நிறுவனம் முக கவசங்களை உற்பத்தி செய்கின்றது. புதிதாக பணியமர்த்தப்பட்ட சந்தை மேலாளர் "கோவிட் பெருந்தொற்று" விற்பனையை அதிகரிக்கும் வாய்ப்பு என்கின்ற நோக்கத்தை அடைய சில கருவிகளை பயன்படுத்துகின்றனர். 4-குழுக்களை உருவாக்குகின்றார்.

குழு 1: ஒவ்வொருவரிடமும் சென்று சொல்லி பெறுவது.

குழு 2: விற்பனையை அதிகப்படுத்த வாய்மொழியாக கூறி ஒன்று அல்லது அதற்கு மேற்பட்ட வாடிக்கையாளர்களை வாங்க செய்வது.

குழு 3: இந்த குழு மக்களை வாங்க வைப்பதற்கு குறுகிய கால ஊக்கம் கொடுத்து உடனடியாக வாங்க வைப்பது.

குழு 4: இந்த குழு நேரடியாக சென்று சொல்வதும் இல்லை பணம் பெறுவதும் இல்லை.

அனைத்து குழுக்களும் சரியாக வடிவமைக்கப்பட்டு அதன் நோக்கத்தை அடைந்துள்ளது.

குழு 2 பயன்படுத்திய கருவி_____

1. மக்கள் தொடர்பு
2. தனிப்பட்ட விற்பனை
3. விளம்பரம்
4. கவன ஈர்ப்பு

Options :

485584145937. 1
485584145938. 2
485584145939. 3
485584145940. 4

History

Group Number :	4
Group Id :	485584824
Group Maximum Duration :	45
Group Minimum Duration :	45
Show Attended Group? :	No
Edit Attended Group? :	No
Break time :	0
Group Marks :	200
Is this Group for Examiner? :	No
Examiner permission :	Cant View
Show Progress Bar? :	No

History

Section Id :	485584948
Section Number :	1
Section type :	Online
Mandatory or Optional :	Mandatory
Number of Questions :	50
Number of Questions to be attempted :	40
Section Marks :	200
Enable Mark as Answered Mark for Review and Clear Response :	Yes
Maximum Instruction Time :	0
Sub-Section Number :	1
Sub-Section Id :	4855842696
Question Shuffling Allowed :	Yes
Is Section Default? :	null

Question Number : 101 Question Id : 48558436486 Question Type : MCQ Option Shuffling : No Is Question Mandatory : No Calculator : None Response Time : N.A Think Time : N.A Minimum Instruction Time : 0

Correct Marks : 5 Wrong Marks : 1

Question Key Details :

Key	Value
Comprehension	MCQ

Who made the following statement: "Marshall left India three thousand years older than he had found her."

1. Daya Ram Sahni
2. Rakhai Das Banerji
3. R.E. M. Wheeler
4. S.N. Roy

Options :

- 485584145941. 1
- 485584145942. 2
- 485584145943. 3
- 485584145944. 4

Question Number : 101 Question Id : 48558436486 Question Type : MCQ Option Shuffling : No Is Question Mandatory : No Calculator : None Response Time : N.A Think Time : N.A Minimum Instruction Time : 0

Correct Marks : 5 Wrong Marks : 1

Question Key Details :

Key	Value
Comprehension	MCQ

"மூவாயிரம் ஆண்டுகளுக்கு முன்னரே அவளைக் கண்டறிந்து மாரசல் இந்தியாவை விட்டு வெளியேறினார்" என்பது யாருடைய கூற்று?

1. தயாராம் சானி
2. ரக்கல்தாஸ் பானர்ஜி
3. R.E. M. வீலர்
4. S.N. ராய்

Options :

485584145941. 1
485584145942. 2
485584145943. 3
485584145944. 4

Question Number : 102 Question Id : 48558436487 Question Type : MCQ Option Shuffling : No Is Question Mandatory : No Calculator : None Response Time : N.A Think Time : N.A Minimum Instruction Time : 0

Correct Marks : 5 Wrong Marks : 1

Question Key Details :

Key	Value
Comprehension	MCQ

Archaeological study of a mound can provide cultural sequence for a site. Study of such layers is called _____.

1. Ethnography
2. Stratigraphy
3. Epigraphy
4. Sociography

Options :

485584145945. 1
485584145946. 2
485584145947. 3
485584145948. 4

Question Number : 102 Question Id : 48558436487 Question Type : MCQ Option Shuffling : No Is Question Mandatory : No Calculator : None Response Time : N.A Think Time : N.A Minimum Instruction Time : 0

Correct Marks : 5 Wrong Marks : 1

Question Key Details :

Key	Value
Comprehension	MCQ

தொல்லியல் சார்ந்த கல்வி கலாச்சார வரிசையிலான பல அடுக்குப்பகுதிகளைத் தருகிறது. பன்னாட்டு அடுக்குகள் சார்ந்த அந்தக் கல்வி எவ்வாறு அழைக்கப்படுகிறது?

1. இனவரைவியல்
2. பாரைப்படிவியல்
3. கல்வெட்டியல்
4. சமூகவரைவியல்

Options :

485584145945. 1
485584145946. 2
485584145947. 3
485584145948. 4

Question Number : 103 Question Id : 48558436488 Question Type : MCQ Option Shuffling : No Is Question Mandatory : No Calculator : None Response Time : N.A Think Time : N.A Minimum Instruction Time : 0

Correct Marks : 5 Wrong Marks : 1

Question Key Details :

Key	Value
Comprehension	MCQ

Which of the following Harappan sites were located near the coast?

1. Banawali and Rakhigarhi
2. Nageshwar and Balakot
3. Ganweriwala and Mitathal
4. Kot-Diji and Kalibangan

Options :

485584145949. 1
485584145950. 2
485584145951. 3
485584145952. 4

Question Number : 103 Question Id : 48558436488 Question Type : MCQ Option Shuffling : No Is Question Mandatory : No Calculator : None Response Time : N.A Think Time : N.A Minimum Instruction Time : 0

Correct Marks : 5 Wrong Marks : 1

Question Key Details :

Key	Value
Comprehension	MCQ

கீழ்க்காண்பவற்றுள் ஹரப்பா தளங்கள் இருந்த பகுதி எந்தக் கடற்கரையின் அருகமையில் அமைந்திருந்தது.

1. பானவாலி மற்றும் இராக்கிகர்கி
2. நாகேஸ்வர் மற்றும் பாலகோட்
3. கன்வேரிவாலா மற்றும் மிட்டாதால்
4. கேட்-டிஜி மற்றும் காலிபங்கள்

Options :

485584145949. 1
485584145950. 2
485584145951. 3
485584145952. 4

Question Number : 104 Question Id : 48558436489 Question Type : MCQ Option Shuffling : No Is Question Mandatory : No Calculator : None Response Time : N.A Think Time : N.A Minimum Instruction Time : 0

Correct Marks : 5 Wrong Marks : 1

Question Key Details :

Key	Value
Comprehension	MCQ

Who among the following is often held as the 'Father of Indian Archaeology'?

1. John Marshall
2. Alexander Cunningham
3. James Prinsep
4. R.E.M. Wheeler

Options :

485584145953. 1
485584145954. 2
485584145955. 3
485584145956. 4

Question Number : 104 Question Id : 48558436489 Question Type : MCQ Option Shuffling : No Is Question Mandatory : No Calculator : None Response Time : N.A Think Time : N.A Minimum Instruction Time : 0

Correct Marks : 5 Wrong Marks : 1

Question Key Details :

Key	Value
Comprehension	MCQ

கீழே கொடுக்கப்பட்டவர்களுள் எவர் இந்திய தொல்லியல் தந்தை என்று பொதுவாக அறியப்படுபவர்?

1. ஜான் மார்சல்
2. அலெக்ஸ்சாண்டர் கன்னிங்காம்
3. ஜேம்ஸ் பிரின்ஸ்செப்
4. R.E.M. வீலர்

Options :

485584145953. 1
485584145954. 2
485584145955. 3
485584145956. 4

Question Number : 105 Question Id : 48558436490 Question Type : MCQ Option Shuffling : No Is Question Mandatory : No Calculator : None Response Time : N.A Think Time : N.A Minimum Instruction Time : 0

Correct Marks : 5 Wrong Marks : 1

Question Key Details :

Key	Value
Comprehension	MCQ

Traces of canals have been found at the Harappan site of Shortughai, which is located in _____.

1. Punjab
2. Sind
3. Afghanistan
4. Gujarat

Options :

485584145957. 1
485584145958. 2
485584145959. 3
485584145960. 4

Question Number : 105 Question Id : 48558436490 Question Type : MCQ Option Shuffling : No Is Question Mandatory : No Calculator : None Response Time : N.A Think Time : N.A Minimum Instruction Time : 0

Correct Marks : 5 Wrong Marks : 1

Question Key Details :

Key	Value
Comprehension	MCQ

ஹரப்பா பகுதியின் சார்ட்டுகையில் கண்டறியப்பட்ட கால்வாய் எந்த பகுதியில் அமைந்துள்ளது?

1. பஞ்சாப்
2. சிந்த்
3. ஆஃப்கானிஸ்தான்
4. குஜராத்

Options :

485584145957. 1
485584145958. 2
485584145959. 3
485584145960. 4

Question Number : 106 Question Id : 48558436491 Question Type : MCQ Option Shuffling : No Is Question Mandatory : No Calculator : None Response Time : N.A Think Time : N.A Minimum Instruction Time : 0

Correct Marks : 5 Wrong Marks : 1

Question Key Details :

Key	Value
Comprehension	MCQ

In ancient India, the first coins to bear the names and images of the rulers were issued by the _____.

1. Indo-Greeks
2. Kushans
3. Parthians
4. Shakas

Options :

485584145961. 1
485584145962. 2
485584145963. 3
485584145964. 4

Question Number : 106 Question Id : 48558436491 Question Type : MCQ Option Shuffling : No Is Question Mandatory : No Calculator : None Response Time : N.A Think Time : N.A Minimum Instruction Time : 0

Correct Marks : 5 Wrong Marks : 1

Question Key Details :

Key	Value
Comprehension	MCQ

பழங்கால இந்தியாவில் முதன்முதலாக நாணயங்களில் பெயர்களையும் உருவங்களையும் பொறித்து வெளியிட்ட ஆட்சியாளர் யார்?

1. இந்தோ-கிரேக்கர்
2. குஷாணர்
3. பர்கியன்ஸ்
4. சஹாஸ்

Options :

485584145961. 1
485584145962. 2
485584145963. 3
485584145964. 4

Question Number : 107 Question Id : 48558436492 Question Type : MCQ Option Shuffling : No Is Question Mandatory : No Calculator : None Response Time : N.A Think Time : N.A Minimum Instruction Time : 0

Correct Marks : 5 Wrong Marks : 1

Question Key Details :

Key	Value
Comprehension	MCQ

Which place are you visiting if you come across the lion capital built by Asoka?

1. Varanasi
2. Delhi
3. Sarnath
4. Ujjayini

Options :

485584145965. 1
485584145966. 2
485584145967. 3
485584145968. 4

Question Number : 107 Question Id : 48558436492 Question Type : MCQ Option Shuffling : No Is Question Mandatory : No Calculator : None Response Time : N.A Think Time : N.A Minimum Instruction Time : 0

Correct Marks : 5 Wrong Marks : 1

Question Key Details :

Key	Value
Comprehension	MCQ

அசோகரால் உருவாக்கப்பட்ட சிம்மச்சின்னத்தினைக் காண விரும்பினால் எந்த இடத்திற்கு வரவேண்டும்?

1. வாரணாசி
2. தில்லி
3. சாரநாத்
4. உஜ்ஜயினி

Options :

485584145965. 1
485584145966. 2
485584145967. 3
485584145968. 4

Question Number : 108 Question Id : 48558436493 Question Type : MCQ Option Shuffling : No Is Question Mandatory : No Calculator : None Response Time : N.A Think Time : N.A Minimum Instruction Time : 0

Correct Marks : 5 Wrong Marks : 1

Question Key Details :

Key	Value
Comprehension	MCQ

Prabhavati Gupta was the daughter of _____.

1. Chandragupta II
2. Samudragupta
3. Chandragupta Maurya
4. Skandgupta

Options :

485584145969. 1
485584145970. 2
485584145971. 3
485584145972. 4

Question Number : 108 Question Id : 48558436493 Question Type : MCQ Option Shuffling : No Is Question Mandatory : No Calculator : None Response Time : N.A Think Time : N.A Minimum Instruction Time : 0

Correct Marks : 5 Wrong Marks : 1

Question Key Details :

Key	Value
Comprehension	MCQ

பிரபாவதி குப்தா என்பவர் யாருடைய மகள் ?

1. சந்திரகுப்தர் II
2. சமுத்ரகுப்தர்
3. சந்திரகுப்தர் மௌரியர்
4. ஸ்கந்த குப்தர்

Options :

485584145969. 1
485584145970. 2
485584145971. 3
485584145972. 4

Question Number : 109 Question Id : 48558436494 Question Type : MCQ Option Shuffling : No Is Question Mandatory : No Calculator : None Response Time : N.A Think Time : N.A Minimum Instruction Time : 0

Correct Marks : 5 Wrong Marks : 1

Question Key Details :

Key	Value
Comprehension	MCQ

Which of the following statements are correct?

- A. The Dharmasutras and Dharmashastras recognised as many as twelve forms of marriages.
- B. People were classified into gotras and each gotra was named after a Vedic seer.
- C. Jatis, which shared a common occupation, were sometimes organised into shrenis or guilds.
- D. Women were allowed to retain the gifts they received on their marriage as 'Stridhana' to be inherited by their children.
- E. Matriliney is the term used when descent is traced through the mother.

Choose the correct answer from the options given below:

1. A, B, C, E only
2. A, C, D, E only
3. B, C, D, E only
4. A, B, D, E only

Options :

485584145973. 1
485584145974. 2
485584145975. 3
485584145976. 4

Question Number : 109 Question Id : 48558436494 Question Type : MCQ Option Shuffling : No Is Question Mandatory : No Calculator : None Response Time : N.A Think Time : N.A Minimum Instruction Time : 0

Correct Marks : 5 Wrong Marks : 1

Question Key Details :

Key	Value
Comprehension	MCQ

பின்வரும் கூற்றுக்களில் சரியானது எது?

- A. தர்மசூத்திரங்கள் மற்றும் தர்மசாத்திரங்கள் பன்னிரு வகையான திருமணங்களை அங்கீகரிக்கின்றன.
- B. மனிதர்கள் கோத்திரங்களால் வகைப்படுத்தப்பட்டுள்ளனர் மற்றும் ஒவ்வொருகோத்திரமும் வேதபார்ப்பனரால் பெயரிடப்பட்டுள்ளது.
- C. பொதுவான தொழிலைப் பகிர்ந்துகொண்ட ஜாதிகள் சில சமயங்களில் ஷ்ரேணிகள் அல்லது கூட்டுறவு குழுக்களாக ஒழுங்கமைக்கப்பட்டனர்.
- D. பெண்கள் தங்கள் திருமணத்தின் போது பரிசாக பெற்ற ஸ்திரிதானங்களை அவர்கள் பரம்பரையில் வரும் குழந்தைக்கு அனுமதிக்கப்பட்டனர் .
- E. பெண் வழிச்சமுதாயம் எனும் சொல் தாய் வம்சாவழியை கண்டறிய பயன்படுத்தப்பட்டது.

கீழே தரப்பட்டுள்ள வாய்ப்புகளில் இருந்து சரியான விடையைத் தேர்ந்தெடுக்கவும்::

- 1. A, B, C, E மட்டும்
- 2. A, C, D, E மட்டும்
- 3. B, C, D, E மட்டும்
- 4. A, B, D, E மட்டும்

Options :

- 485584145973. 1
- 485584145974. 2
- 485584145975. 3
- 485584145976. 4

Question Number : 110 Question Id : 48558436495 Question Type : MCQ Option Shuffling : No Is Question Mandatory : No Calculator : None Response Time : N.A Think Time : N.A Minimum Instruction Time : 0

Correct Marks : 5 Wrong Marks : 1

Question Key Details :

Key	Value
Comprehension	MCQ

What did Ibn Battuta observe when he visited the city of Delhi?

- A. Its beautiful temple architecture in every part of the city.
- B. Its fine cemetery with domes and arches.
- C. Its imposing stupa in the heart of the city.
- D. Its twenty-eight big darwazas.
- E. Its many waterfalls within the city.

Choose the **correct** answer from the options given below:

- 1. A, B only
- 2. C, D only
- 3. B, D only
- 4. D, E only

Options :

- 485584145977. 1
- 485584145978. 2
- 485584145979. 3
- 485584145980. 4

Question Number : 110 Question Id : 48558436495 Question Type : MCQ Option Shuffling : No Is Question Mandatory : No Calculator : None Response Time : N.A Think Time : N.A Minimum Instruction Time : 0

Correct Marks : 5 Wrong Marks : 1

Question Key Details :

Key	Value
Comprehension	MCQ

இபன் படுடா தில்லி நகரத்திற்கு வந்தபோது எதை கவனித்தார்??

- A. நகரின் எல்லா இடங்களிலும் இருந்த அழகான கோயில் கட்டிக்கலை.
- B. புதைவெளியிடங்களில் கட்டப்பட்ட விதானமும் மற்றும் வளைவும்.
- C. நகரத்தின் மையப்பகுதியிலுள்ள உன்னதமானஸ்தூபா.
- D. 28 பெரிய வாயில்கள்.
- E. நகரத்திற்குள் இருந்த நிறைய அருவிகள்.

கீழே தரப்பட்டுள்ள வாய்ப்புகளில் இருந்து சரியான விடையைத் தேர்ந்தெடுக்கவும்:

- 1. A மற்றும் B மட்டும்
- 2. C மற்றும் D மட்டும்
- 3. B மற்றும் D மட்டும்
- 4. D மற்றும் E மட்டும்

Options :

- 485584145977. 1
- 485584145978. 2

485584145979. 3

485584145980. 4

Question Number : 111 Question Id : 48558436496 Question Type : MCQ Option Shuffling : No Is Question Mandatory : No Calculator : None Response Time : N.A Think Time : N.A Minimum Instruction Time : 0

Correct Marks : 5 Wrong Marks : 1

Question Key Details :

Key	Value
Comprehension	MCQ

Match List I with List II:

LIST I (Traders)		LIST II (Countries)	
A.	Nicolo de Conti	I.	England
B.	Duarte Barbosa	II.	Italy
C.	Peter Mundy	III.	Russia
D.	Afanasii Nikitin	IV.	Portugal

Choose the **correct** answer from the options given below:

1. A-II, B-I, C-III, D-IV

2. A-II, B-III, C-IV, D-I

3. A-IV, B-III, C-II, D-I

4. A-II, B-IV, C-I, D-III

Options :

485584145981. 1

485584145982. 2

485584145983. 3

485584145984. 4

Question Number : 111 Question Id : 48558436496 Question Type : MCQ Option Shuffling : No Is Question Mandatory : No Calculator : None Response Time : N.A Think Time : N.A Minimum Instruction Time : 0

Correct Marks : 5 Wrong Marks : 1

Question Key Details :

Key	Value
Comprehension	MCQ

பட்டியல் I ஐ பட்டியல் II உடன் பொருத்துக:-

பட்டியல் I வணிகர்கள்		பட்டியல் II நாடுகள்	
A.	நிக்கோலோ டி காண்டி	I.	இங்கிலாந்து
B.	டௌர்டே பர்போஸா	II.	இத்தாலி
C.	பீட்டர் முண்டி	III.	ரஷ்யா
D.	அபனாசி நிகிதின்	IV.	போர்ச்சுகல்

Choose the correct answer from the options given below:

1. A-II, B-I, C-III, D-IV
2. A-II, B-III, C-IV, D-I
3. A-IV, B-III, C-II, D-I
4. A-II, B-IV, C-I, D-III

Options :

485584145981. 1
485584145982. 2
485584145983. 3
485584145984. 4

Question Number : 112 Question Id : 48558436497 Question Type : MCQ Option Shuffling : No Is Question Mandatory : No Calculator : None Response Time : N.A Think Time : N.A Minimum Instruction Time : 0

Correct Marks : 5 Wrong Marks : 1

Question Key Details :

Key	Value
Comprehension	MCQ

Match List I with List II:

LIST I		LIST II	
A.	Alvare	I.	Bijak
B.	Virashaiva	II.	Tevaram
C.	Nayanars	III.	Nalayira Divyaprabandham
D.	Kabir	IV.	Vachanas

Choose the correct answer from the options given below:

1. A-I, B-IV, C-III, D-II
2. A-III, B-IV, C-II, D-I
3. A-II, B-I, C-III, D-IV
4. A-IV, B-III, C-I, D-II

Options :

485584145985. 1
485584145986. 2

485584145987. 3

485584145988. 4

Question Number : 112 Question Id : 48558436497 Question Type : MCQ Option Shuffling : No Is Question Mandatory : No Calculator : None Response Time : N.A Think Time : N.A Minimum Instruction Time : 0

Correct Marks : 5 Wrong Marks : 1

Question Key Details :

Key	Value
Comprehension	MCQ

பட்டியல் I ஐ பட்டியல் II உடன் பொருத்துக:-

பட்டியல் I		பட்டியல் II	
A.	ஆழ்வார்கள்	I.	பிஜக்
B.	வீரசைவர்கள்	II.	தேவாரம்
C.	நாயன்மார்கள்	III.	நாலாயிர திவ்யபிரபந்தம்
D.	சுபீர்	IV.	வச்சனாஸ்

கீழே தரப்பட்டுள்ள வாய்ப்புகளில் இருந்து சரியான விடையைத் தேர்ந்தெடுக்கவும்:

1. A-I, B-IV, C-III, D-II

2. A-III, B-IV, C-II, D-I

3. A-II, B-I, C-III, D-IV

4. A-IV, B-III, C-I, D-II

Options :

485584145985. 1

485584145986. 2

485584145987. 3

485584145988. 4

Question Number : 113 Question Id : 48558436498 Question Type : MCQ Option Shuffling : No Is Question Mandatory : No Calculator : None Response Time : N.A Think Time : N.A Minimum Instruction Time : 0

Correct Marks : 5 Wrong Marks : 1

Question Key Details :

Key	Value
Comprehension	MCQ

Match List I with List II:

LIST I (Sufi Teachers)		LIST II (Year of Death)	
A.	Muinuddin Sijzi	I.	1265
B.	Fariduddin Ganj-i-Shakar	II.	1235
C.	Nizamuddin Auliya	III.	1356
D.	Nasiruddin Chirag	IV.	1325

Choose the correct answer from the options given below:

1. A-II, B-III, C-I, D-IV
2. A-I, B-II, C-III, D-IV
3. A-II, B-I, C-IV, D-III
4. A-IV, B-III, C-I, D-II

Options :

485584145989. 1
485584145990. 2
485584145991. 3
485584145992. 4

Question Number : 113 Question Id : 48558436498 Question Type : MCQ Option Shuffling : No Is Question Mandatory : No Calculator : None Response Time : N.A Think Time : N.A Minimum Instruction Time : 0

Correct Marks : 5 Wrong Marks : 1

Question Key Details :

Key	Value
Comprehension	MCQ

பட்டியல் I ஐ பட்டியல் II உடன் பொருத்துக:-

பட்டியல் I (சூஃபிகள்)		பட்டியல் II (இறந்த வருடம்)	
A.	மொய்னுதின் சிஜ்ஜி	I.	1265
B.	ஃபரிதுத்தின் கன்ஜ்-ஐ-சாகர்	II.	1235
C.	நிஜாமுதின்அவுலியா	III.	1356
D.	நசிருதின் சிராஜ்	IV.	1325

Choose the correct answer from the options given below:

1. A-II, B-III, C-I, D-IV
2. A-I, B-II, C-III, D-IV
3. A-II, B-I, C-IV, D-III
4. A-IV, B-III, C-I, D-II

Options :

485584145989. 1

485584145990. 2

485584145991. 3

485584145992. 4

Question Number : 114 Question Id : 48558436499 Question Type : MCQ Option Shuffling : No Is Question Mandatory : No Calculator : None Response Time : N.A Think Time : N.A Minimum Instruction Time : 0

Correct Marks : 5 Wrong Marks : 1

Question Key Details :

Key	Value
Comprehension	MCQ

Choose the **incorrect** statement out of the following:

1. Guru Nanak rejected the sacrifices and rituals of both Hindus and Muslims.
2. Guru Nanak did not wish to establish his own new religion.
3. Guru Nanak advocated the form of Nirguna Bhakti.
4. Guru Nanak appointed one his disciple 'Angad' to succeed him as the perceptor.

Options :

485584145993. 1

485584145994. 2

485584145995. 3

485584145996. 4

Question Number : 114 Question Id : 48558436499 Question Type : MCQ Option Shuffling : No Is Question Mandatory : No Calculator : None Response Time : N.A Think Time : N.A Minimum Instruction Time : 0

Correct Marks : 5 Wrong Marks : 1

Question Key Details :

Key	Value
Comprehension	MCQ

கீழே தரப்பட்டுள்ள வாய்ப்புகளில் இருந்து தவறான கூற்றைத் தேர்ந்தெடுக்கவும்:

1. இந்து மற்றும் இசுலாம் மதச்சடங்குகளில் பலியிடுவதை குருநானக் தடுத்தார்.
2. குருநானக் தன்னுடைய புது மதத்தினைத் தொடங்கவிரும்பவில்லை.
3. குருநானக் நிர்குண பக்தியை ஆதரித்து பேசினர்.
4. குருநானக் தனது சீடர்களில் ஒருவரான அங்கத்தை அவரின் வாரிசாக கருதினார்.

Options :

485584145993. 1

485584145994. 2

485584145995. 3

485584145996. 4

Question Number : 115 Question Id : 48558436500 Question Type : MCQ Option Shuffling : No Is Question Mandatory : No Calculator : None Response Time : N.A Think Time : N.A Minimum Instruction Time : 0

Correct Marks : 5 Wrong Marks : 1

Question Key Details :

Key	Value
Comprehension	MCQ

Chronologically arrange the landmark events in the discovery of Vijayanagara.

- A. Conservation under John Marshall.
- B. Documentation of temple inscriptions by J.F. Fleet.
- C. Survey of Vijayanagara by Colin Mackenzie.
- D. Status of world heritage site by UNESCO.
- E. Photography of the archaeological site under Alexander Greenlaw.

Choose the correct answer from the options given below:

- 1. C, E, B, A, D
- 2. B, D, A, E, C
- 3. C, D, A, B, E
- 4. E, A, C, D, B

Options :

- 485584145997. 1
- 485584145998. 2
- 485584145999. 3
- 485584146000. 4

Question Number : 115 Question Id : 48558436500 Question Type : MCQ Option Shuffling : No Is Question Mandatory : No Calculator : None Response Time : N.A Think Time : N.A Minimum Instruction Time : 0

Correct Marks : 5 Wrong Marks : 1

Question Key Details :

Key	Value
Comprehension	MCQ

விஜயநகர கண்டுபிடிப்புகளில் திருப்புமுனையாக அமைந்த செயல்களை காலவரிசைப்படுத்துக.

- A. ஜான் மார்சலால் சேகரிக்கப்பட்டவை.
- B. J.F.ஃபீலிட் சேகரித்த கோவில் கல்வெட்டு ஆவணங்கள்.
- C. கோலின் மெக்கன்சி செய்த விஜயநகரம் கணக்கெடுப்பு.
- D. யுனெஸ்கோவால் வழங்கப்பட்ட உலகப்பாரம்பரியத் தகுதி.
- E. அலெக்ஸ்சாண்டர் கிரீன்லாவால் எடுக்கப்பட்ட தொல்லியல் சார்ந்த ஒளிப்படங்கள்.

கீழே தரப்பட்டுள்ள வாய்ப்புகளில் இருந்து சரியான விடையைத் தேர்ந்தெடுக்கவும்:

- 1. C, E, B, A, D
- 2. B, D, A, E, C
- 3. C, D, A, B, E
- 4. E, A, C, D, B

Options :

- 485584145997. 1
- 485584145998. 2
- 485584145999. 3
- 485584146000. 4

Question Number : 116 Question Id : 48558436501 Question Type : MCQ Option Shuffling : No Is Question Mandatory : No Calculator : None Response Time : N.A Think Time : N.A Minimum Instruction Time : 0

Correct Marks : 5 Wrong Marks : 1

Question Key Details :

Key	Value
Comprehension	MCQ

Arrange the following dynasties in a chronological order.

- A. Tuluva dynasty
- B. Saluva dynasty
- C. Aravidu dynasty
- D. Sangama dynasty

Choose the correct answer from the options given below:

- 1. A, B, C, D
- 2. A, B, D, C
- 3. C, D, A, B
- 4. D, B, A, C

Options :

- 485584146001. 1

485584146002. 2

485584146003. 3

485584146004. 4

Question Number : 116 Question Id : 48558436501 Question Type : MCQ Option Shuffling : No Is Question Mandatory : No Calculator : None Response Time : N.A Think Time : N.A Minimum Instruction Time : 0

Correct Marks : 5 Wrong Marks : 1

Question Key Details :

Key	Value
Comprehension	MCQ

அரசர் வம்சாவளி மரபினை காலவரிசைப் படுத்துக

- A. துளுவ வம்சம்
- B. சளுவ வம்சம்
- C. அரவிது வம்சம்
- D. சங்கம வம்சம்

கீழே தரப்பட்டுள்ள வாய்ப்புகளில் இருந்து சரியான விடையைத் தேர்ந்தெடுக்கவும்:

- 1. A, B, C, D
- 2. A, B, D, C
- 3. C, D, A, B
- 4. D, B, A, C

Options :

485584146001. 1

485584146002. 2

485584146003. 3

485584146004. 4

Question Number : 117 Question Id : 48558436502 Question Type : MCQ Option Shuffling : No Is Question Mandatory : No Calculator : None Response Time : N.A Think Time : N.A Minimum Instruction Time : 0

Correct Marks : 5 Wrong Marks : 1

Question Key Details :

Key	Value
Comprehension	MCQ

What is a 'Gopuram' in the context of Vijayanagara Empire?

- 1. Mandapa
- 2. Platform
- 3. Shrine
- 4. Gateway

Options :

485584146005. 1

485584146006. 2

485584146007. 3

485584146008. 4

Question Number : 117 Question Id : 48558436502 Question Type : MCQ Option Shuffling : No Is Question Mandatory : No Calculator : None Response Time : N.A Think Time : N.A Minimum Instruction Time : 0

Correct Marks : 5 Wrong Marks : 1

Question Key Details :

Key	Value
Comprehension	MCQ

விஜயநகரப் பேரரசில் "கோபுரம்" என்பது

1. மண்டபம்
2. நடைமேடை
3. கோயில்
4. வாயில்

Options :

485584146005. 1

485584146006. 2

485584146007. 3

485584146008. 4

Question Number : 118 Question Id : 48558436503 Question Type : MCQ Option Shuffling : No Is Question Mandatory : No Calculator : None Response Time : N.A Think Time : N.A Minimum Instruction Time : 0

Correct Marks : 5 Wrong Marks : 1

Question Key Details :

Key	Value
Comprehension	MCQ

Vijayanagara kings claimed to rule on behalf of the God _____.

1. Pampadevi
2. Virupaksha
3. Vitthala
4. Rama

Options :

485584146009. 1

485584146010. 2

485584146011. 3

485584146012. 4

Question Number : 118 Question Id : 48558436503 Question Type : MCQ Option Shuffling : No Is Question Mandatory : No Calculator : None Response Time : N.A Think Time : N.A Minimum Instruction Time : 0

Correct Marks : 5 Wrong Marks : 1

Question Key Details :

Key	Value
Comprehension	MCQ

கடவுளுக்கு நிகராக ஆட்சி செய்வதாக எந்த விஜயநகர அரசர் உரிமை கோரினார்?

1. பாமாதேவி
2. விருபாக்சா
3. விதாலா
4. ராமா

Options :

485584146009. 1
485584146010. 2
485584146011. 3
485584146012. 4

Question Number : 119 Question Id : 48558436504 Question Type : MCQ Option Shuffling : No Is Question Mandatory : No Calculator : None Response Time : N.A Think Time : N.A Minimum Instruction Time : 0

Correct Marks : 5 Wrong Marks : 1

Question Key Details :

Key	Value
Comprehension	MCQ

The Vijayanagara Empire was known to its contemporaries as _____.

1. Maharashtra Samrajyamu
2. Andhra Samrajyamu
3. Tamil Samrajyamu
4. Karnataka Samrajyamu

Options :

485584146013. 1
485584146014. 2
485584146015. 3
485584146016. 4

Question Number : 119 Question Id : 48558436504 Question Type : MCQ Option Shuffling : No Is Question Mandatory : No Calculator : None Response Time : N.A Think Time : N.A Minimum Instruction Time : 0

Correct Marks : 5 Wrong Marks : 1

Question Key Details :

Key	Value
Comprehension	MCQ

விஜயநகர பேரரசின் சமகாலத்தில் ஆட்சி செய்த அறியப்பட்ட மற்றொரு பேரரசு

1. மகாராஷ்டிர சாம்ராஜ்யம்
2. ஆந்திர சாம்ராஜ்யம்
3. தமிழ் சாம்ராஜ்யம்
4. கர்நாடக சாம்ராஜ்யம்

Options :

485584146013. 1
485584146014. 2
485584146015. 3
485584146016. 4

Question Number : 120 Question Id : 48558436505 Question Type : MCQ Option Shuffling : No Is Question Mandatory : No Calculator : None Response Time : N.A Think Time : N.A Minimum Instruction Time : 0

Correct Marks : 5 Wrong Marks : 1

Question Key Details :

Key	Value
Comprehension	MCQ

In the 17th century, Indo-Persian sources, the term for non-resident cultivators, who belonged to some other village but cultivated land elsewhere on contractual basis, were known as _____.

1. Khud-Kashta
2. Pahi-Kashta
3. Muqaddam
4. Muzarian

Options :

485584146017. 1
485584146018. 2
485584146019. 3
485584146020. 4

Question Number : 120 Question Id : 48558436505 Question Type : MCQ Option Shuffling : No Is Question Mandatory : No Calculator : None Response Time : N.A Think Time : N.A Minimum Instruction Time : 0

Correct Marks : 5 Wrong Marks : 1

Question Key Details :

Key	Value
Comprehension	MCQ

17ம் நூற்றாண்டில் பெர்சிய ஆதாரத்தின் வழி, ஒப்பந்தத்தின் அடிப்படையில் வேற்று கிராமத்திலிருந்து வேறிடத்தில் பயிரிடும் தொழில் செய்யும் தங்கிடமில்லா விவசாயிகளை எங்ஙனம் அழைப்பர்?

1. குட்-கஸ்தா
2. பஹி-கஸ்தா
3. முக்கட்டாம்
4. முஜாரியன்

Options :

485584146017. 1
485584146018. 2
485584146019. 3
485584146020. 4

Question Number : 121 Question Id : 48558436506 Question Type : MCQ Option Shuffling : No Is Question Mandatory : No Calculator : None Response Time : N.A Think Time : N.A Minimum Instruction Time : 0

Correct Marks : 5 Wrong Marks : 1

Question Key Details :

Key	Value
Comprehension	MCQ

Identify the correct sequence of the chronicles written during the Mughal period.

- A. Akbar Nama
- B. Alamgir Nama
- C. Char Chaman
- D. Jahangir Nama
- E. Humayun Nama

Choose the correct answer from the options given below:

1. A, C, B, D, E
2. A, D, B, C, E
3. E, A, B, D, C
4. E, A, D, C, B

Options :

485584146021. 1
485584146022. 2
485584146023. 3
485584146024. 4

Question Number : 121 Question Id : 48558436506 Question Type : MCQ Option Shuffling : No Is Question Mandatory : No Calculator : None Response Time : N.A Think Time : N.A Minimum Instruction Time : 0

Correct Marks : 5 Wrong Marks : 1

Question Key Details :

Key	Value
Comprehension	MCQ

முசுலாய பேரரசின் காலத்தில் வெளியிடப்பட்ட ஆண்டு கணக்கெடுப்பு அடையாளங்கண்டு சரியான குறிப்பேட்டினை காலவரிசைப் படுத்துக.

- A. அக்பர் நாமா
- B. ஆலம்கீர்நாமா
- C. சர் சமன்
- D. ஜஹாங்கீர் நாமா
- E. ஹுமாயுன் நாமா

கீழே தரப்பட்டுள்ள வாய்ப்புகளில் இருந்து சரியான விடையைத் தேர்ந்தெடுக்கவும்:

- 1. A, C, B, D, E
- 2. A, D, B, C, E
- 3. E, A, B, D, C
- 4. E, A, D, C, B

Options :

- 485584146021. 1
- 485584146022. 2
- 485584146023. 3
- 485584146024. 4

Question Number : 122 Question Id : 48558436507 Question Type : MCQ Option Shuffling : No Is Question Mandatory : No Calculator : None Response Time : N.A Think Time : N.A Minimum Instruction Time : 0

Correct Marks : 5 Wrong Marks : 1

Question Key Details :

Key	Value
Comprehension	MCQ

Which minister looked after the finances in the Mughal Empire?

- 1. Sadr-us-Sadur
- 2. Diwan-i-Ala
- 3. Mir Bakshi
- 4. Mir Saman

Options :

- 485584146025. 1
- 485584146026. 2
- 485584146027. 3
- 485584146028. 4

Question Number : 122 Question Id : 48558436507 Question Type : MCQ Option Shuffling : No Is Question Mandatory : No Calculator : None Response Time : N.A Think Time : N.A Minimum Instruction Time : 0

Correct Marks : 5 Wrong Marks : 1

Question Key Details :

Key	Value
Comprehension	MCQ

முசுலாயப் பேரரசுகாலத்தில் நிதி நிர்வாகத்தினை மேற்கொண்ட அமைச்சர்

1. சதர்-உஸ்-சதர்
2. திவான்-கி-அலா
3. மீர் பசுடி
4. மீர் சமன்

Options :

485584146025. 1
485584146026. 2
485584146027. 3
485584146028. 4

Question Number : 123 Question Id : 48558436508 Question Type : MCQ Option Shuffling : No Is Question Mandatory : No Calculator : None Response Time : N.A Think Time : N.A Minimum Instruction Time : 0

Correct Marks : 5 Wrong Marks : 1

Question Key Details :

Key	Value
Comprehension	MCQ

Whom did Akbar honour with the title "Zarrin qalam"?

1. Muhammad Husayn
2. Abul Hasan
3. Payag
4. Abdul Hamid Lahori

Options :

485584146029. 1
485584146030. 2
485584146031. 3
485584146032. 4

Question Number : 123 Question Id : 48558436508 Question Type : MCQ Option Shuffling : No Is Question Mandatory : No Calculator : None Response Time : N.A Think Time : N.A Minimum Instruction Time : 0

Correct Marks : 5 Wrong Marks : 1

Question Key Details :

Key	Value
Comprehension	MCQ

"சாரின் கொலாம்" என்ற பெயரில் அக்பரிடம் சிறப்புப்பட்டம் பெற்றவர் யார் ?

1. முகம்மது ஹுசைன்
2. அபுல் ஹசன்
3. பயக்
4. அப்துல் ஹமீது லஹாரி

Options :

485584146029. 1
485584146030. 2
485584146031. 3
485584146032. 4

Question Number : 124 Question Id : 48558436509 Question Type : MCQ Option Shuffling : No Is Question Mandatory : No Calculator : None Response Time : N.A Think Time : N.A Minimum Instruction Time : 0

Correct Marks : 5 Wrong Marks : 1

Question Key Details :

Key	Value
Comprehension	MCQ

The Permanent Settlement came into operation in _____.

1. 1864
2. 1757
3. 1793
4. 1800

Options :

485584146033. 1
485584146034. 2
485584146035. 3
485584146036. 4

Question Number : 124 Question Id : 48558436509 Question Type : MCQ Option Shuffling : No Is Question Mandatory : No Calculator : None Response Time : N.A Think Time : N.A Minimum Instruction Time : 0

Correct Marks : 5 Wrong Marks : 1

Question Key Details :

Key	Value
Comprehension	MCQ

ஜமின்தாரி முறை எப்போது நிரந்தரத்தீர்வுக்கு வந்தது?

1. 1864
2. 1757
3. 1793
4. 1800

Options :

485584146033. 1
485584146034. 2
485584146035. 3
485584146036. 4

Question Number : 125 Question Id : 48558436510 Question Type : MCQ Option Shuffling : No Is Question Mandatory : No Calculator : None Response Time : N.A Think Time : N.A Minimum Instruction Time : 0

Correct Marks : 5 Wrong Marks : 1

Question Key Details :

Key	Value
Comprehension	MCQ

The Manchester Cotton Company was formed in the year _____.

1. 1857
2. 1858
3. 1859
4. 1860

Options :

485584146037. 1
485584146038. 2
485584146039. 3
485584146040. 4

Question Number : 125 Question Id : 48558436510 Question Type : MCQ Option Shuffling : No Is Question Mandatory : No Calculator : None Response Time : N.A Think Time : N.A Minimum Instruction Time : 0

Correct Marks : 5 Wrong Marks : 1

Question Key Details :

Key	Value
Comprehension	MCQ

மான்செஸ்டர் காட்டன் நிறுவனம் உருவாக்கப்பட்ட வருடம் _____

1. 1857
2. 1858
3. 1859
4. 1860

Options :

485584146037. 1
485584146038. 2
485584146039. 3
485584146040. 4

Question Number : 126 Question Id : 48558436511 Question Type : MCQ Option Shuffling : No Is Question Mandatory : No Calculator : None Response Time : N.A Think Time : N.A Minimum Instruction Time : 0

Correct Marks : 5 Wrong Marks : 1

Question Key Details :

Key	Value
Comprehension	MCQ

Before the age of railway, the town of Mirzapur was a collection centre for cotton from which area?

1. Punjab
2. Tamil Nadu
3. Gujarat
4. Deccan

Options :

485584146041. 1
485584146042. 2
485584146043. 3
485584146044. 4

Question Number : 126 Question Id : 48558436511 Question Type : MCQ Option Shuffling : No Is Question Mandatory : No Calculator : None Response Time : N.A Think Time : N.A Minimum Instruction Time : 0

Correct Marks : 5 Wrong Marks : 1

Question Key Details :

Key	Value
Comprehension	MCQ

இரயில் போக்குவரத்து காலத்திற்கு முன்பே பருத்தி சேகரிப்பு மையமாக இருந்த மீர்சாபூர் நகரம் எந்தப் பகுதியில் இருந்தது?

1. பஞ்சாப்
2. தமிழ்நாடு
3. குஜராத்
4. டெக்கான்

Options :

485584146041. 1
485584146042. 2
485584146043. 3
485584146044. 4

Question Number : 127 Question Id : 48558436512 Question Type : MCQ Option Shuffling : No Is Question Mandatory : No Calculator : None Response Time : N.A Think Time : N.A Minimum Instruction Time : 0

Correct Marks : 5 Wrong Marks : 1

Question Key Details :

Key	Value
Comprehension	MCQ

Satyajit Ray's film 'Jalshaghar' dealt with the subject matter of _____.

1. India's freedom struggle.
2. The decline of the aristocratic zamindari style of living.
3. Revolt of 1857.
4. Swadeshi Movement in Bengal.

Options :

485584146045. 1
485584146046. 2
485584146047. 3
485584146048. 4

Question Number : 127 Question Id : 48558436512 Question Type : MCQ Option Shuffling : No Is Question Mandatory : No Calculator : None Response Time : N.A Think Time : N.A Minimum Instruction Time : 0

Correct Marks : 5 Wrong Marks : 1

Question Key Details :

Key	Value
Comprehension	MCQ

சுதயஜித் ரே அவர்களின் "ஜல்ஷாகர்"படம் எந்த உள்ளடக்கத்தினை கையாண்டுள்ளது?

1. இந்தியாவின் சுதந்திர போராட்டம்
2. மேற்கட்டு மக்களின் ஜமிதாரி வாழ்க்கைமுறை நலிவு
3. 1857 ன் வன்முறைக் கிளர்ச்சி
4. வங்காளத்து சுதேசிய இயக்கம்

Options :

485584146045. 1
485584146046. 2
485584146047. 3
485584146048. 4

Question Number : 128 Question Id : 48558436513 Question Type : MCQ Option Shuffling : No Is Question Mandatory : No Calculator : None Response Time : N.A Think Time : N.A Minimum Instruction Time : 0

Correct Marks : 5 Wrong Marks : 1

Question Key Details :

Key	Value
Comprehension	MCQ

Who organised the zoo which later on became the Calcutta Alipore Zoo?

1. Francis Buchanan
2. Augustus Cornwallis
3. Charles Cornwallis
4. Maharaja Mehtab Chand

Options :

485584146049. 1
485584146050. 2
485584146051. 3
485584146052. 4

Question Number : 128 Question Id : 48558436513 Question Type : MCQ Option Shuffling : No Is Question Mandatory : No Calculator : None Response Time : N.A Think Time : N.A Minimum Instruction Time : 0

Correct Marks : 5 Wrong Marks : 1

Question Key Details :

Key	Value
Comprehension	MCQ

யாரால் திட்டமிடப்பட்ட விலங்கினக் காட்சியகம் பின்னாளில் கல்கத்தா அனிப்பூர் விலங்கினக் காட்சியகமாக வந்தது ?

1. ப்ரான்சிஸ் பியூகன்ன்
2. அகஸ்டஸ் கார்ன்வாலிஸ்
3. சார்லஸ் கார்ன்வாலிஸ்
4. மகாராஜா மெக்தப் சன்த்

Options :

485584146049. 1
485584146050. 2
485584146051. 3
485584146052. 4

Question Number : 129 Question Id : 48558436514 Question Type : MCQ Option Shuffling : No Is Question Mandatory : No Calculator : None Response Time : N.A Think Time : N.A Minimum Instruction Time : 0

Correct Marks : 5 Wrong Marks : 1

Question Key Details :

Key	Value
Comprehension	MCQ

Where is 'Borah Bazaar' located?

1. Madras
2. Bombay
3. Lucknow
4. Shimla

Options :

485584146053. 1
485584146054. 2
485584146055. 3
485584146056. 4

Question Number : 129 Question Id : 48558436514 Question Type : MCQ Option Shuffling : No Is Question Mandatory : No Calculator : None Response Time : N.A Think Time : N.A Minimum Instruction Time : 0

Correct Marks : 5 Wrong Marks : 1

Question Key Details :

Key	Value
Comprehension	MCQ

போரா பஜார் எப்பகுதியில் அமைந்துள்ளது?

1. மெட்ராஸ்
2. பாம்பே
3. லக்னோ
4. சிம்லா

Options :

485584146053. 1
485584146054. 2
485584146055. 3
485584146056. 4

Question Number : 130 Question Id : 48558436515 Question Type : MCQ Option Shuffling : No Is Question Mandatory : No Calculator : None Response Time : N.A Think Time : N.A Minimum Instruction Time : 0

Correct Marks : 5 Wrong Marks : 1

Question Key Details :

Key	Value
Comprehension	MCQ

Name the historian who remarked that South Africa was "the making of Mahatma".

1. Lala Lajpat Rai
2. Bal Gangadhar Tilak
3. Chandran Devanesan
4. Abindranath Tagore

Options :

485584146057. 1
485584146058. 2
485584146059. 3
485584146060. 4

Question Number : 130 Question Id : 48558436515 Question Type : MCQ Option Shuffling : No Is Question Mandatory : No Calculator : None Response Time : N.A Think Time : N.A Minimum Instruction Time : 0

Correct Marks : 5 Wrong Marks : 1

Question Key Details :

Key	Value
Comprehension	MCQ

"மகாத்மாவின் உருவாக்கம்" தென் ஆப்ரிக்கா தான் என்று எந்த வரலாற்று ஆசிரியரால் குறிப்பிடப்படுகிறது?

1. லாலா லஜ்பத் ராய்
2. பால் கங்காதர் திலக்
3. சந்திரன் தேவநேசன்
4. அபிந்த்ரநாத் தாகூர்

Options :

485584146057. 1
485584146058. 2
485584146059. 3
485584146060. 4

Question Number : 131 Question Id : 48558436516 Question Type : MCQ Option Shuffling : No Is Question Mandatory : No Calculator : None Response Time : N.A Think Time : N.A Minimum Instruction Time : 0

Correct Marks : 5 Wrong Marks : 1

Question Key Details :

Key	Value
Comprehension	MCQ

Who from among the following nationalist leaders belonged to the group of Moderates?

1. Bipin Chandra Pal
2. Bal Gangadhar Tilak
3. Gopal Krishna Gokhale
4. Chandrashekhar Azad

Options :

485584146061. 1
485584146062. 2
485584146063. 3
485584146064. 4

Question Number : 131 Question Id : 48558436516 Question Type : MCQ Option Shuffling : No Is Question Mandatory : No Calculator : None Response Time : N.A Think Time : N.A Minimum Instruction Time : 0

Correct Marks : 5 Wrong Marks : 1

Question Key Details :

Key	Value
Comprehension	MCQ

இவர்களுள் யிதவாதக் குழுவினருந்து பின்னாளில் தேசியக் தலைவராக வந்தவர் யார்?

1. பிபின் சந்த்ரபால்
2. பால் கங்காதர் திலக்
3. கோபால் கிருஷ்ண கோகலே
4. சந்திரசேகர் ஆக்ஷத்

Options :

485584146061. 1
485584146062. 2
485584146063. 3
485584146064. 4

Question Number : 132 Question Id : 48558436517 Question Type : MCQ Option Shuffling : No Is Question Mandatory : No Calculator : None Response Time : N.A Think Time : N.A Minimum Instruction Time : 0

Correct Marks : 5 Wrong Marks : 1

Question Key Details :

Key	Value
Comprehension	MCQ

Who amongst the following were close associates of Gandhi in the years 1917-1922?

- A. Vallabhbhai Patel
- B. Subhas Chandra Bose
- C. Annie Besant
- D. Govind Ballabh Pant
- E. B.R. Ambedkar

Choose the correct answer from the options given below:

1. A, C, E only
2. A, B, E only
3. B, D, C only
4. A, B, D only

Options :

485584146065. 1
485584146066. 2
485584146067. 3
485584146068. 4

Question Number : 132 Question Id : 48558436517 Question Type : MCQ Option Shuffling : No Is Question Mandatory : No Calculator : None Response Time : N.A Think Time : N.A Minimum Instruction Time : 0

Correct Marks : 5 Wrong Marks : 1

Question Key Details :

Key	Value
Comprehension	MCQ

கீழே கொடுக்கப்பட்டவர்களுள் 1917-1922 ஆம் வருடங்களில் காந்தியோடு நெருங்கிய தோழராய் இருந்தவர்கள் யார்?

- வல்லபாய் படேல்
- சுபாஷ் சந்திர போஸ்
- அன்னி பெசன்ட்
- கோவிந்த் பல்லாப் பண்ட்
- B.R. அம்பேத்கர்

கீழே தரப்பட்டுள்ள வாய்ப்புகளில் இருந்து சரியான விடையைத் தேர்ந்தெடுக்கவும்:

- A, C, E மட்டும்
- A, B, E மட்டும்
- B, D, C மட்டும்
- A, B, D மட்டும்

Options :

485584146065. 1
485584146066. 2
485584146067. 3
485584146068. 4

Question Number : 133 Question Id : 48558436518 Question Type : MCQ Option Shuffling : No Is Question Mandatory : No Calculator : None Response Time : N.A Think Time : N.A Minimum Instruction Time : 0

Correct Marks : 5 Wrong Marks : 1

Question Key Details :

Key	Value
Comprehension	MCQ

Match List I with List II:

LIST I		LIST II	
A.	Dandi March	I.	1917
B.	Khilafat Movement	II.	1942
C.	Quit India Movement	III.	1921
D.	Champaran Movement	IV.	1930

Choose the correct answer from the options given below:

- A-I, B-II, C-III, D-IV
- A-II, B-IV, C-I, D-III
- A-IV, B-III, C-II, D-I
- A-III, B-IV, C-I, D-II

Options :

485584146069. 1
 485584146070. 2
 485584146071. 3
 485584146072. 4

Question Number : 133 Question Id : 48558436518 Question Type : MCQ Option Shuffling : No Is Question Mandatory : No Calculator : None Response Time : N.A Think Time : N.A Minimum Instruction Time : 0

Correct Marks : 5 Wrong Marks : 1

Question Key Details :

Key	Value
Comprehension	MCQ

பட்டியல் I ஐ பட்டியல் II உடன் பொருத்துக:-

பட்டியல் I		பட்டியல் II	
A.	தண்டி பயணம்	I.	1917
B.	இலாகப்த் இயக்கம்	II.	1942
C.	வெள்ளையனே வெளியேறு	III.	1921
D.	சம்பரன் இயக்கம்	IV.	1930

கீழே தரப்பட்டுள்ள வாய்ப்புகளில் இருந்து சரியான விடையைத் தேர்ந்தெடுக்கவும்:

1. A-I, B-II, C-III, D-IV
2. A-II, B-IV, C-I, D-III
3. A-IV, B-III, C-II, D-I
4. A-III, B-IV, C-I, D-II

Options :

485584146069. 1
 485584146070. 2
 485584146071. 3
 485584146072. 4

Question Number : 134 Question Id : 48558436519 Question Type : MCQ Option Shuffling : No Is Question Mandatory : No Calculator : None Response Time : N.A Think Time : N.A Minimum Instruction Time : 0

Correct Marks : 5 Wrong Marks : 1

Question Key Details :

Key	Value
Comprehension	MCQ

Chronologically arrange the following movements led by Mahatma Gandhi.

- A. Rowlatt Satyagraha
- B. Kheda Movement
- C. Champaran Satyagraha
- D. Ahmedabad Mill Strike
- E. Dandi March

Choose the correct answer from the options given below:

- 1. A, B, C, D, E
- 2. B, D, C, A, E
- 3. C, D, B, A, E
- 4. C, A, B, D, E

Options :

- 485584146073. 1
- 485584146074. 2
- 485584146075. 3
- 485584146076. 4

Question Number : 134 Question Id : 48558436519 Question Type : MCQ Option Shuffling : No Is Question Mandatory : No Calculator : None Response Time : N.A Think Time : N.A Minimum Instruction Time : 0

Correct Marks : 5 Wrong Marks : 1

Question Key Details :

Key	Value
Comprehension	MCQ

மகாத்மா காந்தி வழிநடத்திய இயக்கங்களை காலவரிசைப்படுத்து.

- A. ரௌலட் சத்யாகிரகம்
- B. கேதா இயக்கம்
- C. சம்பரான் சத்யாகிரகம்
- D. அகமதாபாத் மில் போராட்டம்
- E. தண்டி பயணம்

கீழே தரப்பட்டுள்ள வாய்ப்புகளில் இருந்து சரியான விடையைத் தேர்ந்தெடுக்கவும்:

- 1. A, B, C, D, E
- 2. B, D, C, A, E
- 3. C, D, B, A, E
- 4. C, A, B, D, E

Options :

- 485584146073. 1
- 485584146074. 2

485584146075. 3

485584146076. 4

Question Number : 135 Question Id : 48558436520 Question Type : MCQ Option Shuffling : No Is Question Mandatory : No Calculator : None Response Time : N.A Think Time : N.A Minimum Instruction Time : 0

Correct Marks : 5 Wrong Marks : 1

Question Key Details :

Key	Value
Comprehension	MCQ

The 'Hindu Mahasabha' was founded in _____.

1. 1917

2. 1915

3. 1916

4. 1919

Options :

485584146077. 1

485584146078. 2

485584146079. 3

485584146080. 4

Question Number : 135 Question Id : 48558436520 Question Type : MCQ Option Shuffling : No Is Question Mandatory : No Calculator : None Response Time : N.A Think Time : N.A Minimum Instruction Time : 0

Correct Marks : 5 Wrong Marks : 1

Question Key Details :

Key	Value
Comprehension	MCQ

ஹிந்து மகாசபை எப்போது தோற்றுவிக்கப்பட்டது

1. 1917

2. 1915

3. 1916

4. 1919

Options :

485584146077. 1

485584146078. 2

485584146079. 3

485584146080. 4

Question Number : 136 Question Id : 48558436521 Question Type : MCQ Option Shuffling : No Is Question Mandatory : No Calculator : None Response Time : N.A Think Time : N.A Minimum Instruction Time : 0

Correct Marks : 5 Wrong Marks : 1

Question Key Details :

Key	Value
Comprehension	MCQ

On which date did the Constituent Assembly begin its sessions?

1. 6 December 1946
2. 9 December 1946
3. 15 July 1946
4. 16 July 1946

Options :

485584146081. 1
485584146082. 2
485584146083. 3
485584146084. 4

Question Number : 136 Question Id : 48558436521 Question Type : MCQ Option Shuffling : No Is Question Mandatory : No Calculator : None Response Time : N.A Think Time : N.A Minimum Instruction Time : 0

Correct Marks : 5 Wrong Marks : 1

Question Key Details :

Key	Value
Comprehension	MCQ

அரசியலமைப்பு சபை அமர்வு தொடங்கப்பட்ட நாள் எது ?

1. 6 டிசம்பர் 1946
2. 9 டிசம்பர் 1946
3. 15 ஜூலை 1946
4. 16 ஜூலை 1946

Options :

485584146081. 1
485584146082. 2
485584146083. 3
485584146084. 4

Question Number : 137 Question Id : 48558436522 Question Type : MCQ Option Shuffling : No Is Question Mandatory : No Calculator : None Response Time : N.A Think Time : N.A Minimum Instruction Time : 0

Correct Marks : 5 Wrong Marks : 1

Question Key Details :

Key	Value
Comprehension	MCQ

Match List I with List II:

LIST I		LIST II	
A.	Cultural and Educational Rights	I.	Articles 25-28
B.	Right to Equality	II.	Articles 17
C.	Freedom of Religion	III.	Article 14-16
D.	Abolition of Untouchability	IV.	Articles 29,30

Choose the correct answer from the options given below:

1. A-II, B-III, C-IV, D-I
2. A-IV, B-III, C-II, D-I
3. A-I, B-II, C-III, D-IV
4. A-IV, B-III, C-I, D-II

Options :

485584146085. 1
485584146086. 2
485584146087. 3
485584146088. 4

Question Number : 137 Question Id : 48558436522 Question Type : MCQ Option Shuffling : No Is Question Mandatory : No Calculator : None Response Time : N.A Think Time : N.A Minimum Instruction Time : 0

Correct Marks : 5 Wrong Marks : 1

Question Key Details :

Key	Value
Comprehension	MCQ

பட்டியல் I ஐ பட்டியல் II உடன் பொருத்துக:-

பட்டியல் I		பட்டியல் II	
A.	கலாச்சாரம் மற்றும் கல்விசார் உரிமை	I.	சரத்து 25-28
B.	அனைவருக்கும் சமமான உரிமை	II.	சரத்து 17
C.	சமயம் சார்ந்த சுதந்திரம்	III.	சரத்து 14-16
D.	கீண்டாமை ஒழிப்பு	IV.	சரத்து 29,30

கீழே தரப்பட்டுள்ள வாய்ப்புகளில் இருந்து சரியான விடையைத் தேர்ந்தெடுக்கவும்:

1. A-II, B-III, C-IV, D-I
2. A-IV, B-III, C-II, D-I
3. A-I, B-II, C-III, D-IV
4. A-IV, B-III, C-I, D-II

Options :

485584146085. 1

485584146086. 2
485584146087. 3
485584146088. 4

Question Number : 138 Question Id : 48558436523 Question Type : MCQ Option Shuffling : No Is Question Mandatory : No Calculator : None Response Time : N.A Think Time : N.A Minimum Instruction Time : 0

Correct Marks : 5 Wrong Marks : 1

Question Key Details :

Key	Value
Comprehension	MCQ

Who were the two other lawyers serving with B.R. Ambedkar on the Drafting Committee of the Constitution?

- A. K.M. Munshi
- B. B.N Rau
- C. Alladi Krishnaswamy Aiyar
- D. S.N. Mukherjee
- E. Rajendra Prasad

Choose the correct answer from the options given below:

- 1. A, B only
- 2. B, C only
- 3. A, C only
- 4. D, E only

Options :

485584146089. 1
485584146090. 2
485584146091. 3
485584146092. 4

Question Number : 138 Question Id : 48558436523 Question Type : MCQ Option Shuffling : No Is Question Mandatory : No Calculator : None Response Time : N.A Think Time : N.A Minimum Instruction Time : 0

Correct Marks : 5 Wrong Marks : 1

Question Key Details :

Key	Value
Comprehension	MCQ

சட்ட வரைவியல் குழுவில் B.R.அம்பேத்காருடன் பணிபுரிந்த இரண்டு வழக்குரைஞர்கள் யார்?

- A. K.M. முன்ஷி
- B. B.N ராவ்
- C. அல்லாடிசுருஷ்ணசுவாமி ஐயர்
- D. S.N. முகர்ஜி
- E. ராஜேந்திர பிரசாத்

கீழே தரப்பட்டுள்ள வாய்ப்புகளில் இருந்து சரியான விடையைத் தேர்ந்தெடுக்கவும்:

- 1. A மற்றும் B மட்டுமே
- 2. B மற்றும் C மட்டுமே
- 3. A மற்றும் C மட்டுமே
- 4. D மற்றும் E மட்டுமே

Options :

- 485584146089. 1
- 485584146090. 2
- 485584146091. 3
- 485584146092. 4

Question Number : 139 Question Id : 48558436524 Question Type : MCQ Option Shuffling : No Is Question Mandatory : No Calculator : None Response Time : N.A Think Time : N.A Minimum Instruction Time : 0

Correct Marks : 5 Wrong Marks : 1

Question Key Details :

Key	Value
Comprehension	MCQ

Arrange the following in a chronological order:

- A. Constituent Assembly begins its session.
- B. Muslim League accepts Cabinet Mission's constitutional scheme.
- C. Muslim League decides to join the Interim Government.
- D. Muslim League announces Direct Action Day.
- E. Muslim League demands dissolution of the Constituent Assembly.

Choose the correct answer from the options given below:

- 1. B, D, C, A, E
- 2. B, A, D, C, E
- 3. A, B, C, D, E
- 4. D, A, E, B, C

Options :

- 485584146093. 1

485584146094. 2

485584146095. 3

485584146096. 4

Question Number : 139 Question Id : 48558436524 Question Type : MCQ Option Shuffling : No Is Question Mandatory : No Calculator : None Response Time : N.A Think Time : N.A Minimum Instruction Time : 0

Correct Marks : 5 Wrong Marks : 1

Question Key Details :

Key	Value
Comprehension	MCQ

காலவரிசைப்படி கீழே கொடுக்கப்பட்டனவற்றை சரியாக வரிசைப்படுத்தவும்.

- A. அரசியலமைப்பு சபை தொடங்கப்பட்டது
- B. அமைச்சரவை பணிகள் அரசியலமைப்புத் திட்டங்களை முஸ்லீம் லீக் பெற்றது.
- C. இடைக்கால அரசில் சேர முஸ்லீம் லீக் முடிவெடுத்தது.
- D. முஸ்லீம் லீக் நேரடி நடவடிக்கை நாளை அறிவித்தது.
- E. அரசியலமைப்பு சபையை கலைக்க முஸ்லீம் லீக் கோரிக்கையிட்டது.

கீழே தரப்பட்டுள்ள வாய்ப்புகளில் இருந்து சரியான விடையைத் தேர்ந்தெடுக்கவும்:

- 1. B, D, C, A, E
- 2. B, A, D, C, E
- 3. A, B, C, D, E
- 4. D, A, E, B, C

Options :

485584146093. 1

485584146094. 2

485584146095. 3

485584146096. 4

Question Number : 140 Question Id : 48558436525 Question Type : MCQ Option Shuffling : No Is Question Mandatory : No Calculator : None Response Time : N.A Think Time : N.A Minimum Instruction Time : 0

Correct Marks : 5 Wrong Marks : 1

Question Key Details :

Key	Value
Comprehension	MCQ

Which of the following statements are True for the Constituent Assembly?

- A. It was boycotted by the Muslim League.
- B. It was elected by Universal Franchise.
- C. Its members were chosen by Provincial Legislatures.
- D. Majority of its members belonged to the Socialist Party.
- E. Constituent Assembly was dominated by three parties.

Choose the correct answer from the options given below:

- 1. A, E only
- 2. B, D only
- 3. A, C only
- 4. B, E only

Options :

- 485584146097. 1
- 485584146098. 2
- 485584146099. 3
- 485584146100. 4

Question Number : 140 Question Id : 48558436525 Question Type : MCQ Option Shuffling : No Is Question Mandatory : No Calculator : None Response Time : N.A Think Time : N.A Minimum Instruction Time : 0

Correct Marks : 5 Wrong Marks : 1

Question Key Details :

Key	Value
Comprehension	MCQ

கீழ்க்காணும் கூற்றுகளுள் அரசியலமைப்பு சபையில் உண்மையானது எது ?

- A. இது முஸ்லீம் லீக்கால் புறக்கணிக்கப்பட்டது.
- B. இது உலகளாவிய உரிமையால் தேர்ந்தெடுக்கப்பட்டது.
- C. இதன் உறுப்பினர்களை மாகாண சட்டமன்றங்கள் தேர்ந்தெடுக்கும்.
- D. இதன் அதிகப்படியான உறுப்பினர்கள் சமூகக் கட்சியிலிருந்து வந்தவர்கள்.
- E. அரசியலமைப்பு சபை முக்கட்சியினரால் ஆதிக்கம் செலுத்தப்படுகிறது.

கீழே தரப்பட்டுள்ள வாய்ப்புகளில் இருந்து சரியான விடையைத் தேர்ந்தெடுக்கவும்:

- 1. A மற்றும் E மட்டுமே
- 2. B மற்றும் D மட்டுமே
- 3. A மற்றும் C மட்டுமே
- 4. B மற்றும் E மட்டுமே

Options :

- 485584146097. 1
- 485584146098. 2

485584146099. 3

485584146100. 4

Sub-Section Number : 2
Sub-Section Id : 4855842697
Question Shuffling Allowed : No
Is Section Default? : null

Question Number : 141 Question Id : 48558436526 Question Type : MCQ Option Shuffling : No Is Question Mandatory : No Calculator : None Response Time : N.A Think Time : N.A Minimum Instruction Time : 0

Correct Marks : 5 Wrong Marks : 1

Question Key Details :

Key	Value
Comprehension	Comp1

Read the passage and answer the questions :

According to Buddhist philosophy, the world is transient (anicca) and constantly changing; it is also soulless (anatta) as there is nothing permanent or eternal in it. Within this transient world, sorrow (dukkha) is intrinsic to human existence. It is by following the path of moderation between severe penance and self indulgence that human beings can rise above these worldly troubles. In the earliest forms of Buddhism whether or not god existed was irrelevant.

Which of the following statement is **NOT True** regarding the Buddhist philosophy?

1. The world is transient and constantly changing.
2. Sorrow is intrinsic to human existence.
3. Humans can rise above sorrow by following the path of severe penance and self-indulgence.
4. The world is soulless as there is nothing permanent or eternal in it.

Options :

485584146101. 1

485584146102. 2

485584146103. 3

485584146104. 4

Question Number : 141 Question Id : 48558436526 Question Type : MCQ Option Shuffling : No Is Question Mandatory : No Calculator : None Response Time : N.A Think Time : N.A Minimum Instruction Time : 0

Correct Marks : 5 Wrong Marks : 1

Question Key Details :

Key	Value
Comprehension	Comp1

பத்தியைப் படித்து வினாவிற்கு விடையளிக்கவும்.

புத்தமதத்தைப் பின்பற்றுபவர்களின் தத்துவப்படி, இந்த உலகம் நிலையற்றது(அனிகா) தொடர்ந்து மாற்றமடைவது. இதுவே ஆத்மாவும் இல்லாதது (அன்ட்டா) அங்கு எதுவும் நிரந்தரமற்றது (அ) நித்யமற்றது. இந்த நிலையற்ற உலகத்தில் துக்கம்(துக்கா) மனிதனின் உள்ளார்ந்த இருப்பாக உள்ளது. மனிதர்கள் இந்த துக்கத்தைக் கடந்து போக வழியாக இருப்பது கடுந்தவமும் சுயக்கட்டுப்பாடும். பழங்கால புத்தமானது கடவுளற்றது அதனோடு தொடர்பற்றது.

புத்தமதத் தத்துவத்தின்படி கீழ்காணும் கூற்றுகளில் எது உண்மையல்ல

1. இந்த உலகம் நிலையற்றது தொடர்ந்து மாறுவது
2. மனிதனின் உள்ளார்ந்த இருப்பு என்பது வருத்தம்
3. மனிதன் தன்னுடையதுக்கத்தை கடுந்தவம் மற்றும் சுயக்கட்டுப்பாட்டின் வழி தாண்டிச் செல்கிறான்.
4. இவ்வுலகம் ஆத்மாவில்லாத நிரந்தமற்றது (அ) நித்யமற்றது

Options :

485584146101. 1
485584146102. 2
485584146103. 3
485584146104. 4

Question Number : 142 Question Id : 48558436527 Question Type : MCQ Option Shuffling : No Is Question Mandatory : No Calculator : None Response Time : N.A Think Time : N.A Minimum Instruction Time : 0

Correct Marks : 5 Wrong Marks : 1

Question Key Details :

Key	Value
Comprehension	Comp1

Read the passage and answer the questions :

According to Buddhist philosophy, the world is transient (anicca) and constantly changing; it is also soulless (anatta) as there is nothing permanent or eternal in it. Within this transient world, sorrow (dukkha) is intrinsic to human existence. It is by following the path of moderation between severe penance and self indulgence that human beings can rise above these worldly troubles. In the earliest forms of Buddhism whether or not god existed was irrelevant.

Which of the following idea is **NOT** a part of the teachings of the Buddha?

1. Importance of right conduct and values.
2. Claims of superiority based on birth.
3. Metta (fellow feeling).
4. Karuna (compassion).

Options :

485584146105. 1
485584146106. 2
485584146107. 3
485584146108. 4

Question Number : 142 Question Id : 48558436527 Question Type : MCQ Option Shuffling : No Is Question Mandatory : No Calculator : None Response Time : N.A Think Time : N.A Minimum Instruction Time : 0

Correct Marks : 5 Wrong Marks : 1

Question Key Details :

Key	Value
Comprehension	Comp1

பத்தியைப் படித்து வினாவிற்கு விடையளிக்கவும்.

புத்தமதத்தைப் பின்பற்றுபவர்களின் தத்துவப்படி, இந்த உலகம் நிலையற்றது(அனிகா) தொடர்ந்து மாற்றமடைவது. இதுவே ஆத்மாவும் இல்லாதது (அன்ட்டா) அங்கு எதுவும் நிரந்தரமற்றது (அ) நித்யமற்றது. இந்த நிலையற்ற உலகத்தில் துக்கம்(துக்கா) மனிதனின் உள்ளார்ந்த இருப்பாக உள்ளது. மனிதர்கள் இந்த துக்கத்தைக் கடந்து போக வழியாக இருப்பது கடுந்தவமும் சுயக்கட்டுப்பாடும். பழங்கால புத்தமானது கடவுளற்றது அதனோடு தொடர்பற்றது.

கீழ்க்காண்பவற்றுள் புத்தரின் போதனைகளில் அடங்காதது எது ?

1. ஒழுக்கமான நடத்தை மற்றும் மதிப்பின் முக்கியத்துவம்.
2. பிறப்பின் அடிப்படையில் உயர்தவராகக் கருதுதல்
3. மெட்டா(சக உணர்வு)
4. கருணா (இரக்கம்)

Options :

485584146105. 1
485584146106. 2
485584146107. 3
485584146108. 4

Question Number : 143 Question Id : 48558436528 Question Type : MCQ Option Shuffling : No Is Question Mandatory : No Calculator : None Response Time : N.A Think Time : N.A Minimum Instruction Time : 0

Correct Marks : 5 Wrong Marks : 1

Question Key Details :

Key	Value
Comprehension	Comp1

Read the passage and answer the questions :

According to Buddhist philosophy, the world is transient (anicca) and constantly changing; it is also soulless (anatta) as there is nothing permanent or eternal in it. Within this transient world, sorrow (dukkha) is intrinsic to human existence. It is by following the path of moderation between severe penance and self indulgence that human beings can rise above these worldly troubles. In the earliest forms of Buddhism whether or not god existed was irrelevant.

In Buddhism, the followers of the older tradition, who followed the old path and respected teachers, described themselves as:

1. Theravadins
2. Mahayanas
3. Taravadins
4. Tantrics

Options :

485584146109. 1
485584146110. 2
485584146111. 3
485584146112. 4

Question Number : 143 Question Id : 48558436528 Question Type : MCQ Option Shuffling : No Is Question Mandatory : No Calculator : None Response Time : N.A Think Time : N.A Minimum Instruction Time : 0

Correct Marks : 5 Wrong Marks : 1

Question Key Details :

Key	Value
Comprehension	Comp1

பத்தியைப் படித்து வினாவிற்கு விடையளிக்கவும்.

புத்தமதத்தைப் பின்பற்றுபவர்களின் தத்துவப்படி, இந்த உலகம் நிலையற்றது(அனிகா) தொடர்ந்து மாற்றமடைவது. இதுவே ஆத்மாவும் இல்லாதது (அன்ட்டா) அங்கு ஏதுவும் நிரந்தரமற்றது (அ) நித்யமற்றது. இந்த நிலையற்ற உலகத்தில் துக்கம்(துக்கா) மனிதனின் உள்ளார்ந்த இருப்பாக உள்ளது. மனிதர்கள் இந்த துக்கத்தைக் கடந்து போக வழியாக இருப்பது கடுந்தவமும் சுயக்கட்டுப்பாடும். பழங்கால புத்தமானது கடவுளற்றது அதனோடு தொடர்பற்றது.

புத்தமதத்தில், பழமையான மரபைப்பற்றி வந்த வழியைப் பின்பற்று மரியாதைக்குரிய குருமார்கள் தங்களை விவரித்தார்கள்.

1. தேராவாதம்
2. மாவூறியானம்
3. தாரவாதம்
4. தந்திரம்

Options :

485584146109. 1
485584146110. 2
485584146111. 3
485584146112. 4

Question Number : 144 Question Id : 48558436529 Question Type : MCQ Option Shuffling : No Is Question Mandatory : No Calculator : None Response Time : N.A Think Time : N.A Minimum Instruction Time : 0

Correct Marks : 5 Wrong Marks : 1

Question Key Details :

Key	Value
Comprehension	Comp1

Read the passage and answer the questions :

According to Buddhist philosophy, the world is transient (anicca) and constantly changing; it is also soulless (anatta) as there is nothing permanent or eternal in it. Within this transient world, sorrow (dukkha) is intrinsic to human existence. It is by following the path of moderation between severe penance and self indulgence that human beings can rise above these worldly troubles. In the earliest forms of Buddhism whether or not god existed was irrelevant.

Where did Gautama Buddha attain 'nibbana'?

1. Lumbini
2. Rajgriha
3. Samath
4. Kusinagara

Options :

485584146113. 1
485584146114. 2
485584146115. 3
485584146116. 4

Question Number : 144 Question Id : 48558436529 Question Type : MCQ Option Shuffling : No Is Question Mandatory : No Calculator : None Response Time : N.A Think Time : N.A Minimum Instruction Time : 0

Correct Marks : 5 Wrong Marks : 1

Question Key Details :

Key	Value
Comprehension	Comp1

பத்தியைப் படித்து வினாவிற்கு விடையளிக்கவும்.

புத்தமதத்தைப் பின்பற்றுபவர்களின் தத்துவப்படி, இந்த உலகம் நிலையற்றது(அனிகா) தொடர்ந்து மாற்றமடைவது. இதுவே ஆத்மாவும் இல்லாதது (அன்ட்டா) அங்கு எதுவும் நிரந்தரமற்றது (அ) நித்யமற்றது. இந்த நிலையற்ற உலகத்தில் துக்கம்(துக்கா) மனிதனின் உள்ளார்ந்த இருப்பாக உள்ளது. மனிதர்கள் இந்த துக்கத்தைக் கடந்து போக வழியாக இருப்பது கடுந்தவமும் சுயக்கட்டுப்பாடும். பழங்கால புத்தமானது கடவுளற்றது அதனோடு தொடர்பற்றது.

கௌதம புத்தர் எங்கு முக்தி அடைந்தார் ?

1. லும்பினி
2. ராஜ்கிரிகா
3. சாரநாத்
4. குஷிநகரா

Options :

485584146113. 1
485584146114. 2
485584146115. 3
485584146116. 4

Question Number : 145 Question Id : 48558436530 Question Type : MCQ Option Shuffling : No Is Question Mandatory : No Calculator : None Response Time : N.A Think Time : N.A Minimum Instruction Time : 0

Correct Marks : 5 Wrong Marks : 1

Question Key Details :

Key	Value
Comprehension	Comp1

Read the passage and answer the questions :

According to Buddhist philosophy, the world is transient (anicca) and constantly changing; it is also soulless (anatta) as there is nothing permanent or eternal in it. Within this transient world, sorrow (dukkha) is intrinsic to human existence. It is by following the path of moderation between severe penance and self indulgence that human beings can rise above these worldly troubles. In the earliest forms of Buddhism whether or not god existed was irrelevant.

Which of the following statements are **True** about the teachings of Buddha?

- A. The Buddha regarded the social world as of divine origin.
- B. The Buddha advised kings and gahapatis to be humane and ethical.
- C. The Buddha believed that collective effort was required to transform social relations.
- D. The Buddha emphasised individual agency and righteous action to escape from the cycle of birth.
- E. The Buddha asserted that the extinguishing of ego and desire would end the cycle of suffering.

Choose the **correct** answer from the options given below:

- 1. C, D, E only
- 2. B, C, D only
- 3. A, B, D only
- 4. B, D, E only

Options :

- 485584146117. 1
- 485584146118. 2
- 485584146119. 3
- 485584146120. 4

Question Number : 145 Question Id : 48558436530 Question Type : MCQ Option Shuffling : No Is Question Mandatory : No Calculator : None Response Time : N.A Think Time : N.A Minimum Instruction Time : 0

Correct Marks : 5 Wrong Marks : 1

Question Key Details :

Key	Value
Comprehension	Comp1

பத்தியைப் படித்து வினாவிற்கு விடையளிக்கவும்.

புத்தமதத்தைப் பின்பற்றுபவர்களின் தத்துவப்படி, இந்த உலகம் நிலையற்றது(அனிகா) தொடர்ந்து மாற்றமடைவது. இதுவே ஆத்மாவும் இல்லாதது (அன்ட்டா) அங்கு எதுவும் நிரந்தரமற்றது (அ) நித்யமற்றது. இந்த நிலையற்ற உலகத்தில் துக்கம்(துக்கா) மனிதனின் உள்ளார்ந்த இருப்பாக உள்ளது. மனிதர்கள் இந்த துக்கத்தைக் கடந்து போக வழியாக இருப்பது கடுந்தவமும் சுயக்கட்டுப்பாடும். பழங்கால புத்தமானது கடவுளற்றது அதனோடு தொடர்பற்றது.

புத்தர்போதித்த கருத்துக்களில் கீழ்க்காண்பவற்றுள் உண்மையானது எது?

- A. புத்தர் தெய்வீகத்தின் தோற்றம் என்று சமூக உலகினைக் கருகினார்
- B. புத்தர் மன்னர் மற்றும் கஹப்பட்டிகளை மனிதாபிமானம், நெறிமுறைகளோடு இரக்க அறிவுறுத்தினார்.
- C. சமூகஉறவுகளை மாற்றுவதற்கு கூட்டுமுயற்சி தேவை என புத்தர் நம்பினர்.
- D. பிறப்பு என்ற சுழற்சியிலிருந்து விடுபட நீதிசார்ந்த நடவடிக்கை மற்றும் சுயக்கட்டுப்பாட்டையும் புத்தர் வலியுறுத்தினார்.
- E. ஆணவம் மற்றும் ஆசையை ஒழிப்பதன் வாயிலாக துன்பச்சுழற்சியை முடிவுக்கு கொண்டுவரலாம் என்று புத்தர் வலியுறுத்தினார்.

கீழே தரப்பட்டுள்ள வாய்ப்புகளில் இருந்து சரியான விடையைத் தேர்ந்தெடுக்கவும்:

- 1. C, D, E மட்டுமே
- 2. B, C, D மட்டுமே
- 3. A, B, D மட்டுமே
- 4. B, D, E மட்டுமே

Options :

- 485584146117. 1
- 485584146118. 2
- 485584146119. 3
- 485584146120. 4

Sub-Section Number :

3

Sub-Section Id :

4855842698

Question Shuffling Allowed :

No

Is Section Default? :

null

Question Number : 146 Question Id : 48558436531 Question Type : MCQ Option Shuffling : No Is Question Mandatory : No Calculator : None Response Time : N.A Think Time : N.A Minimum Instruction Time : 0

Correct Marks : 5 Wrong Marks : 1

Question Key Details :

Key	Value
Comprehension	Comp2

Read the passage and answer the questions :

Section I - Regarding Zemindars. It is evident that the British Government in making zemindary settlement have imposed exorbitant *Jumas* (revenue demand) and have disgraced and ruined several Zemindars by putting up their estates for public auction for arrears of rent, in so much, in the institution of a suit by a common Ryot, a maid servant or a slave, the respectable Zemindars are summoned into court, arrested, put in goal and disgraced. In litigation regarding Zemindaries, the immense value of stamps, and other unnecessary expenses of the civil courts,... are all calculated to impoverish the litigants. Besides this, the coffers of the Zemindars are annually taxed with the subscription for schools, hospitals, roads, etc. Such extortions will have no manner of existence in the Badshahi Government; but on the contrary the *Jumas* will be light, the dignity and honour of the Zemindars safe, and every Zemindar will have absolute rule in his own Zemindary...

This excerpt has been taken from:

1. Bijnaur Proclamation of 1857
2. Kanpur Proclamation of 1857
3. Azamgarh Proclamation of 1857
4. Lucknow Proclamation of 1857

Options :

485584146121. 1
485584146122. 2
485584146123. 3
485584146124. 4

Question Number : 146 Question Id : 48558436531 Question Type : MCQ Option Shuffling : No Is Question Mandatory : No Calculator : None Response Time : N.A Think Time : N.A Minimum Instruction Time : 0

Correct Marks : 5 Wrong Marks : 1

Question Key Details :

Key	Value
Comprehension	Comp2

பத்தியைப் படித்து வினாவிற்கு விடையளிக்கவும்

பகுதி I - ஜமீன்தார்களைப் பற்றி. அங்கிலேய அரசாங்கம் ஜமீன்தாரி முறை தீர்வுசெய்வதில் அபரிதமான ஜமாக்களை விதித்துள்ளனர். வாடகை பாக்கியை வைத்திருப்பவர்களின் தோட்டங்களை பொது ஏலத்தில் வைத்து பல ஜமீன்தார்களை அவமானப்படுத்தி நாசப்படுத்தியது என்பது தெளிவாகிறது. நிறுவனம் பொதுவான ஒரு ஏழையைப்போலவும் பணியில் அடிமைபோல ஒரு வழக்கில் ஜமீன்தார்களுக்கு பிடியாணையை நீதிமன்றம் வழங்கி வரவழைத்து. கைது செய்யப்பட்டு அவமானப்படத்தப்படுகிறார்கள். ஜமீன்தார்களைப் பற்றிய சிவில் நீதிமன்றங்களில் வழக்கு தொடர்பான பிற செலவீனங்கள் பெறப்பட்டன. இது தவிர ஜமீன்தார்களின் கருவூலங்கள், பள்ளிகள், மருத்துவமனைகள், சாலைகள் போன்றவற்றிற்கும் சந்தாவும் ஆண்டு வரியும் விதிக்கப்பட்டது. பட்சாஹி அரசாங்கத்தில் இத்தகைய மிரட்டி பணம் பறிக்கும் செயல் எவ்விதத்திலும் இருக்காது. மாறாக ஜமீன்தார்களின் கண்ணியமும் மரியாதையும் பாதுகாப்பாக இருக்கும். மேலும் ஒவ்வொரு ஜமீன்தாரும் தனது சொந்த ஜமீன்தாரியில் முழுமையான ஆட்சியை கொண்டவராயிருப்பர்.

இந்த பகுதி எதில் இருந்து எடுக்கப்பட்டது.

1. பஜ்நாலூர் பிரகடனம் 1857
2. கான்பூர் பிரகடனம் 1857
3. அஜ்மார் பிரகடனம் 1857
4. லக்னோ பிரகடனம் 1857

Options :

485584146121. 1
485584146122. 2
485584146123. 3
485584146124. 4

Question Number : 147 Question Id : 48558436532 Question Type : MCQ Option Shuffling : No Is Question Mandatory : No Calculator : None Response Time : N.A Think Time : N.A Minimum Instruction Time : 0

Correct Marks : 5 Wrong Marks : 1

Question Key Details :

Key	Value
Comprehension	Comp2

Read the passage and answer the questions :

Section I - Regarding Zemindars. It is evident that the British Government in making zemindary settlement have imposed exorbitant *Jumas* (revenue demand) and have disgraced and ruined several Zemindars by putting up their estates for public auction for arrears of rent, in so much, in the institution of a suit by a common Ryot, a maid servant or a slave, the respectable Zemindars are summoned into court, arrested, put in goal and disgraced. In litigation regarding Zemindaries, the immense value of stamps, and other unnecessary expenses of the civil courts,... are all calculated to impoverish the litigants. Besides this, the coffers of the Zemindars are annually taxed with the subscription for schools, hospitals, roads, etc. Such extortions will have no manner of existence in the Badshahi Government; but on the contrary the *Jumas* will be light, the dignity and honour of the Zemindars safe, and every Zemindar will have absolute rule in his own Zemindary...

"Section I" of the Proclamation addresses to which class?

1. Service gentry class
2. Land holding class
3. Merchant-commercial class
4. Artisans and peasants

Options :

485584146125. 1
485584146126. 2
485584146127. 3
485584146128. 4

Question Number : 147 Question Id : 48558436532 Question Type : MCQ Option Shuffling : No Is Question Mandatory : No Calculator : None Response Time : N.A Think Time : N.A Minimum Instruction Time : 0
 Correct Marks : 5 Wrong Marks : 1
 Question Key Details :

Key	Value
Comprehension	Comp2

பத்தியைப் படித்து வினாவிற்கு விடையளிக்கவும்

பகுதி I - ஜமீன்தார்களைப் பற்றி. அங்கிலேய அரசாங்கம் ஜமீன்தாரி முறை தீர்வுசெய்வதில் அபரிதமான ஜுமாக்களை விதித்துள்ளனர். வாடகை பாக்கியை வைத்திருப்பவர்களின் தோட்டங்களை பொது ஏலத்தில் வைத்து பல ஜமீன்தார்களை அவமானப்படுத்தி நாசப்படுத்தியது என்பது தெளிவாகிறது. நிறுவனம் பொதுவான ஒரு ஏழையைப்போலவும் பணியில் அடிமைபோல ஒரு வழக்கில் ஜமீன்தார்களுக்கு பிடியாணையை நீதிமன்றம் வழங்கி வரவழைத்து, கைது செய்யப்பட்டு அவமானப்படத்தப்படுகிறார்கள். ஜமீன்தார்களைப் பற்றிய சிவில் நீதிமன்றங்களில் வழக்கு தொடர்பான பிற செலவீனங்கள் பெறப்பட்டன. இது தவிர ஜமீன்தார்களின் கருவூலங்கள், பள்ளிகள், மருத்துவமனைகள், சாலைகள் போன்றவற்றிற்கும் சந்தாவும் ஆண்டு வரியும் விதிக்கப்பட்டது. பட்சாஹி அரசாங்கத்தில் இத்தகைய மிரட்டி பணம் பறிக்கும் செயல் எவ்விதத்திலும் இருக்காது. மாறாக ஜமீன்தார்களின் கண்ணியமும் மரியாதையும் பாதுகாப்பாக இருக்கும், மேலும் ஒவ்வொரு ஜமீன்தாரும் தனது சொந்த ஜமீன்தாரியில் முழுமையான ஆட்சியை கொண்டவராயிருப்பர்.

பிரகடனம் "பகுதி I" எந்த வகுப்பிற்கு முகவரியிடுகிறது?

1. மேன்மக்கள் பொதுப்பணி வர்க்கம்
2. நிலம் வைத்துள்ள வர்க்கம்
3. வணிகர்-வணிக வர்க்கம்
4. கைவினைநார்கள் மற்றும் விவசாயிகள்

Options :

- 485584146125. 1
- 485584146126. 2
- 485584146127. 3
- 485584146128. 4

Question Number : 148 Question Id : 48558436533 Question Type : MCQ Option Shuffling : No Is Question Mandatory : No Calculator : None Response Time : N.A Think Time : N.A Minimum Instruction Time : 0
 Correct Marks : 5 Wrong Marks : 1
 Question Key Details :

Key	Value
Comprehension	Comp2

Read the passage and answer the questions :

Section I - Regarding Zemindars. It is evident that the British Government in making zemindary settlement have imposed exorbitant *Jumas* (revenue demand) and have disgraced and ruined several Zemindars by putting up their estates for public auction for arrears of rent, in so much, in the institution of a suit by a common Ryot, a maid servant or a slave, the respectable Zemindars are summoned into court, arrested, put in goal and disgraced. In litigation regarding Zemindaries, the immense value of stamps, and other unnecessary expenses of the civil courts,... are all calculated to impoverish the litigants. Besides this, the coffers of the Zemindars are annually taxed with the subscription for schools, hospitals, roads, etc. Such extortions will have no manner of existence in the Badshahi Government; but on the contrary the *Jumas* will be light, the dignity and honour of the Zemindars safe, and every Zemindar will have absolute rule in his own Zemindary...

Which of the difficulties and miseries of the zamindars have **NOT** been addressed in the Proclamation?

1. Absolute maximising of land tax.
2. Loss of social prestige.
3. Financial burden of the litigation.
4. Backwardness in communication and transportation.

Options :

- 485584146129. 1
- 485584146130. 2
- 485584146131. 3
- 485584146132. 4

Question Number : 148 Question Id : 48558436533 Question Type : MCQ Option Shuffling : No Is Question Mandatory : No Calculator : None Response Time : N.A Think Time : N.A Minimum Instruction Time : 0

Correct Marks : 5 Wrong Marks : 1

Question Key Details :

Key	Value
Comprehension	Comp2

பத்தியைப் படித்து வினாவிற்கு விடையளிக்கவும்

பகுதி I - ஜமீன்தார்களைப் பற்றி. அங்கிலேய அரசாங்கம் ஜமீன்தாரி முறை தீர்வுசெய்வதில் அபரிதமான ஜமாக்களை விதித்துள்ளனர். வாடகை பாக்கியை வைத்திருப்பவர்களின் தோட்டங்களை பொது ஏலத்தில் வைத்து பல ஜமீன்தார்களை அவமானப்படுத்தி நாசப்படுத்தியது என்பது தெளிவாகிறது. நிறுவனம் பொதுவான ஒரு ஏழையைப்போலவும் பணியில் அடிமைபோல ஒரு வழக்கில் ஜமீன்தார்களுக்கு பிடியாணையை நீதிமன்றம் வழங்கி வரவழைத்து, கைது செய்யப்பட்டு அவமானப்படத்தப்படுகிறார்கள். ஜமீன்தார்களைப் பற்றிய சிவில் நீதிமன்றங்களில் வழக்கு தொடர்பான பிற செலவீனங்கள் பெறப்பட்டன. இது தவிர ஜமீன்தார்களின் கருவூலங்கள், பள்ளிகள், மருத்துவமனைகள், சாலைகள் போன்றவற்றிற்கும் சந்தாவும் ஆண்டு வரியும் விதிக்கப்பட்டது. பட்சாஹி அரசாங்கத்தில் இத்தகைய மிரட்டி பணம் பறிக்கும் செயல் எவ்விதத்திலும் இருக்காது. மாறாக ஜமீன்தார்களின் கண்ணியமும் மரியாதையும் பாதுகாப்பாக இருக்கும், மேலும் ஒவ்வொரு ஜமீன்தாரும் தனது சொந்த ஜமீன்தாரியில் முழுமையான ஆட்சியை கொண்டவராயிருப்பர்.

எந்த சிரமங்களும் துன்பங்களும் ஜமீன்தார்களின் பிரகடனத்தில் குறிபிடப்படாதது?

1. முற்றிலும் அதிகப்படியான நில வரி
2. சமூகத்தில் மதிப்பு இழப்பு
3. வழக்கிற்கான நிதிச்சுமை
4. தகவல் தொடர்பு மற்றும் போக்குவரத்துகளில் பின்தங்கிய நிலை

Options :

485584146129. 1
485584146130. 2
485584146131. 3
485584146132. 4

Question Number : 149 Question Id : 48558436534 Question Type : MCQ Option Shuffling : No Is Question Mandatory : No Calculator : None Response Time : N.A Think Time : N.A Minimum Instruction Time : 0

Correct Marks : 5 Wrong Marks : 1

Question Key Details :

Key	Value
Comprehension	Comp2

Read the passage and answer the questions :

Section I - Regarding Zemindars. It is evident that the British Government in making zemindary settlement have imposed exorbitant *Jumas* (revenue demand) and have disgraced and ruined several Zemindars by putting up their estates for public auction for arrears of rent, in so much, in the institution of a suit by a common Ryot, a maid servant or a slave, the respectable Zemindars are summoned into court, arrested, put in goal and disgraced. In litigation regarding Zemindaries, the immense value of stamps, and other unnecessary expenses of the civil courts,... are all calculated to impoverish the litigants. Besides this, the coffers of the Zemindars are annually taxed with the subscription for schools, hospitals, roads, etc. Such extortions will have no manner of existence in the Badshahi Government; but on the contrary the *Jumas* will be light, the dignity and honour of the Zemindars safe, and every Zemindar will have absolute rule in his own Zemindary...

The alternative rule of 'Badshahi Government' proposed by the rebels in this proclamation refers to _____.

1. The rule of the king of England.
2. The royal nature of the company state.
3. The rule of India's traditional aristocratic class, such as of Bahadur Shah Zafar.
4. The rule established by the rebels based on the ordinary people of India.

Options :

485584146133. 1
485584146134. 2
485584146135. 3
485584146136. 4

Question Number : 149 Question Id : 48558436534 Question Type : MCQ Option Shuffling : No Is Question Mandatory : No Calculator : None Response Time : N.A Think Time : N.A Minimum Instruction Time : 0

Correct Marks : 5 Wrong Marks : 1

Question Key Details :

Key	Value
Comprehension	Comp2

பத்தியைப் படித்து வினாவிற்கு விடையளிக்கவும்

பகுதி I - ஜமீன்தார்களைப் பற்றி. அங்கிலேய அரசாங்கம் ஜமீன்தாரி முறை தீர்வுசெய்வதில் அபரிதமான ஜமாக்களை விதித்துள்ளனர். வாடகை பாக்கியை வைத்திருப்பவர்களின் தோட்டங்களை பொது ஏலத்தில் வைத்து பல ஜமீன்தார்களை அவமானப்படுத்தி நாசப்படுத்தியது என்பது தெளிவாகிறது. நிறுவனம் பொதுவான ஒரு ஏழையைப்போலவும் பணியில் அடிமைபோல ஒரு வழக்கில் ஜமீன்தார்களுக்கு பிடியாணையை நீதிமன்றம் வழங்கி வரவழைத்து, கைது செய்யப்பட்டு அவமனப்படத்தப்படுகிறார்கள். ஜமீன்தார்களைப் பற்றிய சிவில் நீதிமன்றங்களில் வழக்கு தொடர்பான பிற செலவீனங்கள் பெறப்பட்டன. இது தவிர ஜமீன்தார்களின் கருவூலங்கள், பள்ளிகள், மருத்துவமனைகள், சாலைகள் போன்றவற்றிற்கும் சந்தாவும் ஆண்டு வரியும் விதிக்கப்பட்டது. பட்சாஹி அரசாங்கத்தில் இத்தகைய மிரட்டி பணம் பறிக்கும் செயல் எவ்விதத்திலும் இருக்காது. மாறாக ஜமீன்தார்களின் கண்ணியமும் மரியாதையும் பாதுகாப்பாக இருக்கும், மேலும் ஒவ்வொரு ஜமீன்தாரும் தனது சொந்த ஜமீன்தாரியில் முழுமையான ஆட்சியை கொண்டவராயிருப்பர்.

மாற்று ஆட்சியான "பாட்சாஹி அரசாங்கம் " முன்மொழியப்பட்ட கிளர்ச்சியாளர் பிரகடனம் குறிப்பிடுவது எது?

1. இங்கிலாந்து மன்னரின் ஆட்சி
2. நிறுவன நிலைகள் அரசு மதிப்பு
3. பகதூர் ஷா ஜாபர் போன்ற இந்தியாவின் பாரம்பரிய பிரபுத்துவ வர்க்கத்தின் ஆட்சி
4. இந்திய சாதாரண மக்கள் கிளர்ச்சியாளர்களை அடிப்பாடியாய் வைத்து ஆட்சி நிறுவினார்.

Options :

485584146133. 1
485584146134. 2
485584146135. 3
485584146136. 4

Question Number : 150 Question Id : 48558436535 Question Type : MCQ Option Shuffling : No Is Question Mandatory : No Calculator : None Response Time : N.A Think Time : N.A Minimum Instruction Time : 0

Correct Marks : 5 Wrong Marks : 1

Question Key Details :

Key	Value
Comprehension	Comp2

Read the passage and answer the questions :

Section I - Regarding Zemindars. It is evident that the British Government in making zemindary settlement have imposed exorbitant *Jumas* (revenue demand) and have disgraced and ruined several Zemindars by putting up their estates for public auction for arrears of rent, in so much, in the institution of a suit by a common Ryot, a maid servant or a slave, the respectable Zemindars are summoned into court, arrested, put in goal and disgraced. In litigation regarding Zemindaries, the immense value of stamps, and other unnecessary expenses of the civil courts,... are all calculated to impoverish the litigants. Besides this, the coffers of the Zemindars are annually taxed with the subscription for schools, hospitals, roads, etc. Such extortions will have no manner of existence in the Badshahi Government; but on the contrary the *Jumas* will be light, the dignity and honour of the Zemindars safe, and every Zemindar will have absolute rule in his own Zemindary...

Loss of zamindari estates and public auction of the same, as mentioned in the Proclamation, was caused by _____.

1. War of succession with the British.
2. Military expedition of the company.
3. New land reserve settlements of the company.
4. Lack of competence and co-ordination on part of the zamindars.

Options :

- 485584146137. 1
- 485584146138. 2
- 485584146139. 3
- 485584146140. 4

Question Number : 150 Question Id : 48558436535 Question Type : MCQ Option Shuffling : No Is Question Mandatory : No Calculator : None Response Time : N.A Think Time : N.A Minimum Instruction Time : 0

Correct Marks : 5 Wrong Marks : 1

Question Key Details :

Key	Value
Comprehension	Comp2

பத்தியைப் படித்து வினாவிற்கு விடையளிக்கவும்

பகுதி I - ஜமீன்தார்களைப் பற்றி. அங்கிலேய அரசாங்கம் ஜமீன்தாரி முறை தீர்வுசெய்வதில் அபரிதமான ஜமாக்களை விதித்துள்ளனர். வாடகை பாக்கியை வைத்திருப்பவர்களின் தோட்டங்களை பொது ஏலத்தில் வைத்து பல ஜமீன்தார்களை அவமானப்படுத்தி நாசப்படுத்தியது என்பது தெளிவாகிறது. நிறுவனம் பொதுவான ஒரு ஏழையைப்போலவும் பணியில் அடிமைபோல ஒரு வழக்கில் ஜமீன்தார்களுக்கு பிடியாணையை நீதிமன்றம் வழங்கி வரவழைத்து, கைது செய்யப்பட்டு அவமானப்படத்தப்படுகிறார்கள். ஜமீன்தார்களைப் பற்றிய சிவில் நீதிமன்றங்களில் வழக்கு தொடர்பான பிற செலவீனங்கள் பெறப்பட்டன. இது தவிர ஜமீன்தார்களின் கருவூலங்கள், பள்ளிகள், மருத்துவமனைகள், சாலைகள் போன்றவற்றிற்கும் சந்தாவும் ஆண்டு வரியும் விதிக்கப்பட்டது. பட்சாஹி அரசாங்கத்தில் இத்தகைய மிரட்டி பணம் பறிக்கும் செயல் எவ்விதத்திலும் இருக்காது. மாறாக ஜமீன்தார்களின் கண்ணியமும் மரியாதையும் பாதுகாப்பாக இருக்கும். மேலும் ஒவ்வொரு ஜமீன்தாரும் தனது சொந்த ஜமீன்தாரியில் முழுமையான ஆட்சியை கொண்டவராயிருப்பர்.

ஜமீன்தாரினுடைய நிலங்கள் பொது ஏலத்தில் வந்தபோது குறிப்பிட்ட பிரகடனம் நடந்தற்கான காரணம் என்ன ?

1. பிரிட்டிஷின் மரபுரிமை குறித்து போராட்டம்
2. நிறுவனத்தின் இராணுவ பயணம்
3. நிறுவனத்தாரின் புது நில ஒதுக்கிட்டுத் தீர்வு
4. ஜமீன்தார்களின் ஒருபடியில் திறமை ஒருங்கிணைப்பு இல்லை

Options :

485584146137. 1
485584146138. 2
485584146139. 3
485584146140. 4

Home Science

Group Number :	5
Group Id :	485584825
Group Maximum Duration :	45
Group Minimum Duration :	45
Show Attended Group? :	No
Edit Attended Group? :	No
Break time :	0
Group Marks :	200
Is this Group for Examiner? :	No
Examiner permission :	Cant View
Show Progress Bar? :	No

Home Science

Section Id :	485584949
Section Number :	1
Section type :	Online
Mandatory or Optional :	Mandatory
Number of Questions :	50
Number of Questions to be attempted :	40
Section Marks :	200
Enable Mark as Answered Mark for Review and Clear Response :	Yes
Maximum Instruction Time :	0
Sub-Section Number :	1
Sub-Section Id :	4855842699
Question Shuffling Allowed :	Yes
Is Section Default? :	null

Question Number : 151 Question Id : 48558436536 Question Type : MCQ Option Shuffling : No Is Question Mandatory : No Calculator : None Response Time : N.A Think Time : N.A Minimum Instruction Time : 0

Correct Marks : 5 Wrong Marks : 1

Question Key Details :

Key	Value
Comprehension	MCQ

The Persons with Disabilities Act was passed in which year?

1. 1995
2. 1996
3. 2000
4. 1998

Options :

485584146141. 1
485584146142. 2
485584146143. 3
485584146144. 4

Question Number : 151 Question Id : 48558436536 Question Type : MCQ Option Shuffling : No Is Question Mandatory : No Calculator : None Response Time : N.A Think Time : N.A Minimum Instruction Time : 0

Correct Marks : 5 Wrong Marks : 1

Question Key Details :

Key	Value
Comprehension	MCQ

உடல் ஊனமுற்றவர்களுக்கான சட்டம் கீழ்க்கண்ட எந்த ஆண்டு நிறைவேற்றப்பட்டது?

1. 1995
2. 1996
3. 2000
4. 1998

Options :

485584146141. 1
485584146142. 2
485584146143. 3
485584146144. 4

Question Number : 152 Question Id : 48558436537 Question Type : MCQ Option Shuffling : No Is Question Mandatory : No Calculator : None Response Time : N.A Think Time : N.A Minimum Instruction Time : 0

Correct Marks : 5 Wrong Marks : 1

Question Key Details :

Key	Value
Comprehension	MCQ

The causes of disability in children can be grouped into three categories which are:

- A. Factors that impinge on the child during development
- B. Factors due to school education
- C. Factors that affect before birth, both genetic and non-genetic
- D. Factors that affect the child at birth or soon after birth

Choose the correct answer from the options given below:

1. A, C and D only
2. A, B and C only
3. B, C and D only
4. A, B and D only

Options :

485584146145. 1
485584146146. 2
485584146147. 3
485584146148. 4

Question Number : 152 Question Id : 48558436537 Question Type : MCQ Option Shuffling : No Is Question Mandatory : No Calculator : None Response Time : N.A Think Time : N.A Minimum Instruction Time : 0

Correct Marks : 5 Wrong Marks : 1

Question Key Details :

Key	Value
-----	-------

குழந்தைகளில் ஏற்படும் ஊனங்கள் மூன்று வகைகள் ஆகும். அவை:

- குழந்தைகள் வளரும்போது அவர்களை பாதிக்கும் காரணிகள்
- பள்ளி கல்வியால் ஏற்படும் காரணிகள்
- பிறப்பிற்கு முன்னதாக மரபு மற்றும் மரபுசாரா காரணிகள்
- பிறந்தவுடன் அல்லது பிறப்பின்போது குழந்தைகளை பாதிக்கும் காரணிகள்

கீழே தரப்பட்டுள்ள வாய்ப்புகளில் இருந்து சரியான விடையைத் தேர்ந்தெடுக்கவும்:

- A, C மற்றும் D மட்டும்
- A, B மற்றும் C மட்டும்
- B, C மற்றும் D மட்டும்
- A, B மற்றும் D மட்டும்

Options :

485584146145. 1
485584146146. 2
485584146147. 3
485584146148. 4

Question Number : 153 Question Id : 48558436538 Question Type : MCQ Option Shuffling : No Is Question Mandatory : No Calculator : None Response Time : N.A Think Time : N.A Minimum Instruction Time : 0

Correct Marks : 5 Wrong Marks : 1

Question Key Details :

Key	Value
Comprehension	MCQ

_____ is the basic unit of society which looks after its members.

- School
- Family
- Neighbour
- Friends

Options :

485584146149. 1
485584146150. 2
485584146151. 3
485584146152. 4

Question Number : 153 Question Id : 48558436538 Question Type : MCQ Option Shuffling : No Is Question Mandatory : No Calculator : None Response Time : N.A Think Time : N.A Minimum Instruction Time : 0

Correct Marks : 5 Wrong Marks : 1

Question Key Details :

Key	Value
Comprehension	MCQ

_____ என்பது சமூகத்தின் ஒரு அங்கம். அது அதன் உறுப்பினர்களை கவனித்துக் கொள்கிறது.

1. பள்ளிகள்
2. குடும்பம்
3. அண்டையில் உள்ளோர்
4. நண்பர்கள்

Options :

485584146149. 1
485584146150. 2
485584146151. 3
485584146152. 4

Question Number : 154 Question Id : 48558436539 Question Type : MCQ Option Shuffling : No Is Question Mandatory : No Calculator : None Response Time : N.A Think Time : N.A Minimum Instruction Time : 0

Correct Marks : 5 Wrong Marks : 1

Question Key Details :

Key	Value
Comprehension	MCQ

In India, a senior citizen is a person belonging to which of the following age group?

1. 65 years and above
2. 60 years and above
3. 70 years and above
4. 80 years and above

Options :

485584146153. 1
485584146154. 2
485584146155. 3
485584146156. 4

Question Number : 154 Question Id : 48558436539 Question Type : MCQ Option Shuffling : No Is Question Mandatory : No Calculator : None Response Time : N.A Think Time : N.A Minimum Instruction Time : 0

Correct Marks : 5 Wrong Marks : 1

Question Key Details :

Key	Value
Comprehension	MCQ

இந்தியாவில் முதியோர் என்பவரின் வயது?

1. 65 வயது மற்றும் அதற்கு மேல்
2. 60 வயது மற்றும் அதற்கு மேல்
3. 70 வயது மற்றும் அதற்கு மேல்
4. 80 வயது மற்றும் அதற்கு மேல்

Options :

485584146153. 1
485584146154. 2
485584146155. 3
485584146156. 4

Question Number : 155 Question Id : 48558436540 Question Type : MCQ Option Shuffling : No Is Question Mandatory : No Calculator : None Response Time : N.A Think Time : N.A Minimum Instruction Time : 0

Correct Marks : 5 Wrong Marks : 1

Question Key Details :

Key	Value
Comprehension	MCQ

In which year, Ministry of Youth Affairs and Sports adopted the National Youth Policy?

1. 2005
2. 2003
3. 2004
4. 2010

Options :

485584146157. 1
485584146158. 2
485584146159. 3
485584146160. 4

Question Number : 155 Question Id : 48558436540 Question Type : MCQ Option Shuffling : No Is Question Mandatory : No Calculator : None Response Time : N.A Think Time : N.A Minimum Instruction Time : 0

Correct Marks : 5 Wrong Marks : 1

Question Key Details :

Key	Value
Comprehension	MCQ

இளைஞர் மற்றும் விளையாட்டு அமைச்சகம் எந்த ஆண்டு தேசிய இளைஞர் கொள்கையை ஏற்றுக்கொண்டது?

1. 2005
2. 2003
3. 2004
4. 2010

Options :

485584146157. 1
485584146158. 2
485584146159. 3
485584146160. 4

Question Number : 156 Question Id : 48558436541 Question Type : MCQ Option Shuffling : No Is Question Mandatory : No Calculator : None Response Time : N.A Think Time : N.A Minimum Instruction Time : 0

Correct Marks : 5 Wrong Marks : 1

Question Key Details :

Key	Value
Comprehension	MCQ

Name the psychologist who outlined the great need that children have for a concerned, caring and knowledgeable adult.

1. Piaget
2. Freud
3. Vygotsky
4. Bruner

Options :

485584146161. 1
485584146162. 2
485584146163. 3
485584146164. 4

Question Number : 156 Question Id : 48558436541 Question Type : MCQ Option Shuffling : No Is Question Mandatory : No Calculator : None Response Time : N.A Think Time : N.A Minimum Instruction Time : 0

Correct Marks : 5 Wrong Marks : 1

Question Key Details :

Key	Value
Comprehension	MCQ

குழந்தைகளுக்கு அறிவார்ந்த, நலன் பேணும், அக்கறை கொண்ட மூத்தோரின் தேவை என்பதை வரையறுத்த மனநல வல்லுனரின் பெயர்.

1. பியாகட்
2. பிளூட்
3. வைகோட்ஸ்கி
4. பர்னர்

Options :

485584146161. 1
485584146162. 2
485584146163. 3
485584146164. 4

Question Number : 157 Question Id : 48558436542 Question Type : MCQ Option Shuffling : No Is Question Mandatory : No Calculator : None Response Time : N.A Think Time : N.A Minimum Instruction Time : 0

Correct Marks : 5 Wrong Marks : 1

Question Key Details :

Key	Value
Comprehension	MCQ

Identify the given standardisation mark.



1. ISI
2. FPO
3. AGMARK
4. Hallmark

Options :

485584146165. 1
485584146166. 2
485584146167. 3
485584146168. 4

Question Number : 157 Question Id : 48558436542 Question Type : MCQ Option Shuffling : No Is Question Mandatory : No Calculator : None Response Time : N.A Think Time : N.A Minimum Instruction Time : 0

Correct Marks : 5 Wrong Marks : 1

Question Key Details :

Key	Value
Comprehension	MCQ

கீழ்க்கண்ட தரக்குறியீடு எதனைக் குறிக்கிறது.



1. ISI
2. FPO
3. அக்மார்க்
4. ஹால்மார்க்

Options :

485584146165. 1
485584146166. 2
485584146167. 3
485584146168. 4

Question Number : 158 Question Id : 48558436543 Question Type : MCQ Option Shuffling : No Is Question Mandatory : No Calculator : None Response Time : N.A Think Time : N.A Minimum Instruction Time : 0

Correct Marks : 5 Wrong Marks : 1

Question Key Details :

Key	Value
Comprehension	MCQ

A process through which buyer makes decisions about purchasing is known as _____.

1. Consumer behaviour
2. Consumer right
3. Consumer footfall
4. Consumer expectation

Options :

485584146169. 1
485584146170. 2
485584146171. 3
485584146172. 4

Question Number : 158 Question Id : 48558436543 Question Type : MCQ Option Shuffling : No Is Question Mandatory : No Calculator : None Response Time : N.A Think Time : N.A Minimum Instruction Time : 0

Correct Marks : 5 Wrong Marks : 1

Question Key Details :

Key	Value
Comprehension	MCQ

ஒரு பொருளை வாங்குவதற்கு கீழ்க்கண்ட எந்த செயல்முறையின் அடிப்படையில் ஒரு வாங்குபவர் முடிவுகளை எடுக்கிறார்?

1. நுகர்வோர் நடத்தை
2. நுகர்வோர் உரிமை
3. நுகர்வோர் பின்பற்றும் அடிகள்
4. நுகர்வோர் எதிர்பார்ப்பு

Options :

485584146169. 1
485584146170. 2
485584146171. 3
485584146172. 4

Question Number : 159 Question Id : 48558436544 Question Type : MCQ Option Shuffling : No Is Question Mandatory : No Calculator : None Response Time : N.A Think Time : N.A Minimum Instruction Time : 0

Correct Marks : 5 Wrong Marks : 1

Question Key Details :

Key	Value
Comprehension	MCQ

Which of the following is a tool to empower and equip consumers to protect themselves from adverse market forces ?

1. Consumer education
2. Consumer problems
3. Consumer behaviour
4. Consumer responsibility

Options :

485584146173. 1
485584146174. 2
485584146175. 3
485584146176. 4

Question Number : 159 Question Id : 48558436544 Question Type : MCQ Option Shuffling : No Is Question Mandatory : No Calculator : None Response Time : N.A Think Time : N.A Minimum Instruction Time : 0
Correct Marks : 5 Wrong Marks : 1
Question Key Details :

Key	Value
Comprehension	MCQ

தீங்கு ஏற்படுத்தும் வர்த்தக பாதிப்புகளில் இருந்து நுகர்வோர்கள் தங்களை காப்பாற்றிக் கொள்ள மேற்கொள்ள சீழ்க்கண்ட எது உதவும்?

1. நுகர்வோர் கல்வி
2. நுகர்வோர் பிரச்சனைகள்
3. நுகர்வோர் நடத்தைகள்
4. நுகர்வோர் பொறுப்புகள்

Options :

485584146173. 1
485584146174. 2
485584146175. 3
485584146176. 4

Question Number : 160 Question Id : 48558436545 Question Type : MCQ Option Shuffling : No Is Question Mandatory : No Calculator : None Response Time : N.A Think Time : N.A Minimum Instruction Time : 0
Correct Marks : 5 Wrong Marks : 1
Question Key Details :

Key	Value
Comprehension	MCQ

What is the other name for short lived fashion?

1. Fad
2. Classic
3. Style
4. Design

Options :

485584146177. 1
485584146178. 2
485584146179. 3
485584146180. 4

Question Number : 160 Question Id : 48558436545 Question Type : MCQ Option Shuffling : No Is Question Mandatory : No Calculator : None Response Time : N.A Think Time : N.A Minimum Instruction Time : 0
Correct Marks : 5 Wrong Marks : 1
Question Key Details :

Key	Value
Comprehension	MCQ

குறைந்த வாழ்நாள் கொண்ட நவநாகரிகத்தின் மறுபெயர் என்ன?

1. பேட்
2. பாரம்பரியம்
3. நவீன பாணி
4. நவீன நாகரிகம்

Options :

485584146177. 1
485584146178. 2
485584146179. 3
485584146180. 4

Question Number : 161 Question Id : 48558436546 Question Type : MCQ Option Shuffling : No Is Question Mandatory : No Calculator : None Response Time : N.A Think Time : N.A Minimum Instruction Time : 0

Correct Marks : 5 Wrong Marks : 1

Question Key Details :

Key	Value
Comprehension	MCQ

You have to purchase a dress for your sister who is tall and slim. Inclusion of which of the following will be appropriate for her?

1. Vertical lines
2. Horizontal lines
3. Dark colours
4. High waist bodice

Options :

485584146181. 1
485584146182. 2
485584146183. 3
485584146184. 4

Question Number : 161 Question Id : 48558436546 Question Type : MCQ Option Shuffling : No Is Question Mandatory : No Calculator : None Response Time : N.A Think Time : N.A Minimum Instruction Time : 0

Correct Marks : 5 Wrong Marks : 1

Question Key Details :

Key	Value
Comprehension	MCQ

தாங்கள் உயரமாகவும் மெலிதாகவும் உள்ள தங்கள் சகோதரிக்கு உடை வாங்குகிறீர்கள் எனில் அவருக்கு பொருந்தும் வடிவமைப்பு எது?

1. செங்குத்து கோடுகள்
2. கிடைதளக் கோடுகள்
3. அடர் நிறங்கள்
4. இடுப்புக் மேல் உள்ள மேற்சட்டை

Options :

485584146181. 1
485584146182. 2
485584146183. 3
485584146184. 4

Question Number : 162 Question Id : 48558436547 Question Type : MCQ Option Shuffling : No Is Question Mandatory : No Calculator : None Response Time : N.A Think Time : N.A Minimum Instruction Time : 0

Correct Marks : 5 Wrong Marks : 1

Question Key Details :

Key	Value
Comprehension	MCQ

_____ ability requires a thorough knowledge of past future trends and current future trends.

1. Analytical
2. Forecasting
3. Communication
4. Technical

Options :

485584146185. 1
485584146186. 2
485584146187. 3
485584146188. 4

Question Number : 162 Question Id : 48558436547 Question Type : MCQ Option Shuffling : No Is Question Mandatory : No Calculator : None Response Time : N.A Think Time : N.A Minimum Instruction Time : 0

Correct Marks : 5 Wrong Marks : 1

Question Key Details :

Key	Value
Comprehension	MCQ

கடந்த கால மற்றும் நிகழ்கால நடப்புகளுக்கு கீழ்க்கண்ட எந்த விரிவான அறிவு தேவைப்படுகிறது?

1. பகுப்பாய்வு செய்தல்
2. முன்னறிதல் திறன்
3. கருத்துப் பரிமாற்றம்
4. தொழில்நுட்பத் திறன்

Options :

485584146185. 1
485584146186. 2
485584146187. 3
485584146188. 4

Question Number : 163 Question Id : 48558436548 Question Type : MCQ Option Shuffling : No Is Question Mandatory : No Calculator : None Response Time : N.A Think Time : N.A Minimum Instruction Time : 0

Correct Marks : 5 Wrong Marks : 1

Question Key Details :

Key	Value
Comprehension	MCQ

_____ is the important phase in wash cycle. If it is not done properly, clothes may look grey, dull with harsh texture.

1. Water extraction
2. Rinsing
3. Drying
4. Pressing

Options :

485584146189. 1
485584146190. 2
485584146191. 3
485584146192. 4

Question Number : 163 Question Id : 48558436548 Question Type : MCQ Option Shuffling : No Is Question Mandatory : No Calculator : None Response Time : N.A Think Time : N.A Minimum Instruction Time : 0

Correct Marks : 5 Wrong Marks : 1

Question Key Details :

Key	Value
Comprehension	MCQ

அழுக்கை நீக்கும் செயல்முறையில் இது முக்கியமானது. இதனை மேற்கொள்ளவில்லை எனில் துணி சாம்பல் நிறத்துடன் மங்கலாக மற்றும் மொடமொடப்புடன் இருக்கும்.

1. நீர் நீக்குதல்
2. அலசுதல்
3. உலர்த்துதல்
4. சலவை செய்தல்

Options :

485584146189. 1
485584146190. 2
485584146191. 3
485584146192. 4

Question Number : 164 Question Id : 48558436549 Question Type : MCQ Option Shuffling : No Is Question Mandatory : No Calculator : None Response Time : N.A Think Time : N.A Minimum Instruction Time : 0

Correct Marks : 5 Wrong Marks : 1

Question Key Details :

Key	Value
Comprehension	MCQ

Which of the following colour scheme refers to a colour combination using two or three hues that lie side by side on the colour wheel?

1. Achromatic harmony
2. Accented neutral
3. Analogous harmony
4. Complementary harmony

Options :

485584146193. 1
485584146194. 2
485584146195. 3
485584146196. 4

Question Number : 164 Question Id : 48558436549 Question Type : MCQ Option Shuffling : No Is Question Mandatory : No Calculator : None Response Time : N.A Think Time : N.A Minimum Instruction Time : 0

Correct Marks : 5 Wrong Marks : 1

Question Key Details :

Key	Value
Comprehension	MCQ

கீழ்க்கண்ட எந்த நிற அமைப்பு இரண்டு அல்லது மூன்று நிறங்கள் தொகுப்பு நிறச்சக்கரத்தில் அடுத்தடுத்து உள்ளதை குறிக்கிறது.

1. அக்ரோமாட்டிக் ஹார்மனி
2. அசென்ட்டர் நியுட்ரல்
3. அனலாகஸ் ஹார்மனி
4. காம்ப்ளிமென்டரி ஹார்மனி

Options :

485584146193. 1
485584146194. 2
485584146195. 3
485584146196. 4

Question Number : 165 Question Id : 48558436550 Question Type : MCQ Option Shuffling : No Is Question Mandatory : No Calculator : None Response Time : N.A Think Time : N.A Minimum Instruction Time : 0

Correct Marks : 5 Wrong Marks : 1

Question Key Details :

Key	Value
Comprehension	MCQ

The term "Development Communication" was first coined by Quebral in which year?

1. 1969
2. 1970
3. 1972
4. 1974

Options :

485584146197. 1
485584146198. 2
485584146199. 3
485584146200. 4

Question Number : 165 Question Id : 48558436550 Question Type : MCQ Option Shuffling : No Is Question Mandatory : No Calculator : None Response Time : N.A Think Time : N.A Minimum Instruction Time : 0

Correct Marks : 5 Wrong Marks : 1

Question Key Details :

Key	Value
Comprehension	MCQ

கருத்துப் பரிமாற்றத்தின் வளர்ச்சி என்ற வார்த்தையை க்யூப்ரால் எந்த ஆண்டு பயன்படுத்தினார்?

1. 1969
2. 1970
3. 1972
4. 1974

Options :

485584146197. 1
485584146198. 2
485584146199. 3
485584146200. 4

Question Number : 166 Question Id : 48558436551 Question Type : MCQ Option Shuffling : No Is Question Mandatory : No Calculator : None Response Time : N.A Think Time : N.A Minimum Instruction Time : 0

Correct Marks : 5 Wrong Marks : 1

Question Key Details :

Key	Value
Comprehension	MCQ

To create focused attention on a small village in Delhi, the Project village Chattera was started in 1969. Which newspaper was involved in this project?

1. The Times of India
2. The Hindustan Times
3. Navbharat times
4. The Hindu

Options :

485584146201. 1
485584146202. 2
485584146203. 3
485584146204. 4

Question Number : 166 Question Id : 48558436551 Question Type : MCQ Option Shuffling : No Is Question Mandatory : No Calculator : None Response Time : N.A Think Time : N.A Minimum Instruction Time : 0

Correct Marks : 5 Wrong Marks : 1

Question Key Details :

Key	Value
Comprehension	MCQ

டெல்லியில் உள்ள ஒரு சிறு கிராமத்தின் மீது கூர்நோக்கு கவனம் செலுத்துதல் என்ற திட்டம் சட்டீரா என்ற கிராமத்தில் 1969 ஆண்டு நடைமுறைப்படுத்தப்பட்டது. இதில் பங்கேற்ற நாளேடு

1. தி டைம்ஸ் ஆப் இந்தியா
2. தி ஹிந்துஸ்தான் டைம்ஸ்
3. நவபாரத் டைம்ஸ்
4. தி ஹிந்து

Options :

485584146201. 1
485584146202. 2
485584146203. 3
485584146204. 4

Question Number : 167 Question Id : 48558436552 Question Type : MCQ Option Shuffling : No Is Question Mandatory : No Calculator : None Response Time : N.A Think Time : N.A Minimum Instruction Time : 0

Correct Marks : 5 Wrong Marks : 1

Question Key Details :

Key	Value
Comprehension	MCQ

In which of the following disease condition, low fibre diet is recommended?

1. Diarrhoea
2. Constipation
3. Diabetes
4. Heart disease

Options :

485584146205. 1
485584146206. 2
485584146207. 3
485584146208. 4

Question Number : 167 Question Id : 48558436552 Question Type : MCQ Option Shuffling : No Is Question Mandatory : No Calculator : None Response Time : N.A Think Time : N.A Minimum Instruction Time : 0

Correct Marks : 5 Wrong Marks : 1

Question Key Details :

Key	Value
Comprehension	MCQ

கீழ்க்கண்ட எந்த நோய்க்கு குறைந்த நார்சத்து கொண்ட உணவு பரிந்துரைக்கப்படுகிறது?

1. வயிற்றுப்போக்கு
2. மலம் செல்லாமை
3. சர்க்கரை நோய்
4. இதய நோய்

Options :

485584146205. 1
485584146206. 2
485584146207. 3
485584146208. 4

Question Number : 168 Question Id : 48558436553 Question Type : MCQ Option Shuffling : No Is Question Mandatory : No Calculator : None Response Time : N.A Think Time : N.A Minimum Instruction Time : 0

Correct Marks : 5 Wrong Marks : 1

Question Key Details :

Key	Value
Comprehension	MCQ

Which of the following is a welfare catering service ?

1. Holiday camps
2. Langar
3. Clubs
4. Flight kitchens

Options :

485584146209. 1
485584146210. 2
485584146211. 3
485584146212. 4

Question Number : 168 Question Id : 48558436553 Question Type : MCQ Option Shuffling : No Is Question Mandatory : No Calculator : None Response Time : N.A Think Time : N.A Minimum Instruction Time : 0

Correct Marks : 5 Wrong Marks : 1

Question Key Details :

Key	Value
Comprehension	MCQ

கீழ்க்கண்ட எந்த ஒன்று பொதுநல உணவுச் சேவை?

1. விடுமுறை கூடாரம்
2. லாங்கர்
3. கேளிக்கை விடுதிகள்
4. விமான சமையற்கூடம்

Options :

485584146209. 1
485584146210. 2
485584146211. 3
485584146212. 4

Question Number : 169 Question Id : 48558436554 Question Type : MCQ Option Shuffling : No Is Question Mandatory : No Calculator : None Response Time : N.A Think Time : N.A Minimum Instruction Time : 0

Correct Marks : 5 Wrong Marks : 1

Question Key Details :

Key	Value
Comprehension	MCQ

Which of these is NOT a feature of GMP (Good Manufacturing Practice)?

1. Minimise false labelling
2. Consumer education
3. Eliminate contamination
4. Mislead consumer

Options :

485584146213. 1
485584146214. 2
485584146215. 3
485584146216. 4

Question Number : 169 Question Id : 48558436554 Question Type : MCQ Option Shuffling : No Is Question Mandatory : No Calculator : None Response Time : N.A Think Time : N.A Minimum Instruction Time : 0

Correct Marks : 5 Wrong Marks : 1

Question Key Details :

Key	Value
Comprehension	MCQ

கீழ்க்கண்டவற்றில் எந்த ஒன்று GMP (சிறந்த உற்பத்தி செயல்முறை) கிடையாது?

1. விவரப்பட்டியலில் தவறுகளை குறைத்தல்
2. நுகர்வோர் கல்வி
3. கலப்படத்தை தவிர்த்தல்
4. நுகர்வோரை ஏமாற்றுதல்

Options :

485584146213. 1
485584146214. 2
485584146215. 3
485584146216. 4

Question Number : 170 Question Id : 48558436555 Question Type : MCQ Option Shuffling : No Is Question Mandatory : No Calculator : None Response Time : N.A Think Time : N.A Minimum Instruction Time : 0

Correct Marks : 5 Wrong Marks : 1

Question Key Details :

Key	Value
Comprehension	MCQ

In the context of food standards regulations, which of the following is an international reference for quality management of an organisation?

1. ISO 6000
2. ISO 7000
3. ISO 8000
4. ISO 9000

Options :

485584146217. 1
485584146218. 2
485584146219. 3
485584146220. 4

Question Number : 170 Question Id : 48558436555 Question Type : MCQ Option Shuffling : No Is Question Mandatory : No Calculator : None Response Time : N.A Think Time : N.A Minimum Instruction Time : 0

Correct Marks : 5 Wrong Marks : 1

Question Key Details :

Key	Value
Comprehension	MCQ

உணவு தரக்கட்டுப்பாடு நடைமுறைகளின்படி கீழ்க்கண்ட எந்த ஒன்று ஒரு நிறுவனத்தின் தரமான நிர்வாகத்தை குறிக்க சர்வதேச குறியீடாக பயன்படுத்தப்படுகிறது?

1. ISO 6000
2. ISO 7000
3. ISO 8000
4. ISO 9000

Options :

485584146217. 1
485584146218. 2
485584146219. 3
485584146220. 4

Question Number : 171 Question Id : 48558436556 Question Type : MCQ Option Shuffling : No Is Question Mandatory : No Calculator : None Response Time : N.A Think Time : N.A Minimum Instruction Time : 0

Correct Marks : 5 Wrong Marks : 1

Question Key Details :

Key	Value
Comprehension	MCQ

In the context of food safety, intentional or accidental addition of impure ingredients that alters the properties and diminishes the quality of food is known as _____.

1. Contamination
2. Toxicity
3. Adulteration
4. Hazard

Options :

485584146221. 1
485584146222. 2
485584146223. 3
485584146224. 4

Question Number : 171 Question Id : 48558436556 Question Type : MCQ Option Shuffling : No Is Question Mandatory : No Calculator : None Response Time : N.A Think Time : N.A Minimum Instruction Time : 0

Correct Marks : 5 Wrong Marks : 1

Question Key Details :

Key	Value
Comprehension	MCQ

உணவு பாதுகாப்பின்படி தெரிந்தோ அல்லது தவறுதலாகவோ சுக்தமற்ற மூலப்பொருட்களை சேர்ப்பதால் உணவின் பண்புகள் மாறுதல் மற்றும் தரத்தில் ஏற்படும் குறைவின் பெயர்.

1. கலத்தல்
2. விஷத்தன்மை
3. கலப்படம்
4. தீங்கு

Options :

485584146221. 1
485584146222. 2
485584146223. 3
485584146224. 4

Question Number : 172 Question Id : 48558436557 Question Type : MCQ Option Shuffling : No Is Question Mandatory : No Calculator : None Response Time : N.A Think Time : N.A Minimum Instruction Time : 0

Correct Marks : 5 Wrong Marks : 1

Question Key Details :

Key	Value
Comprehension	MCQ

Fortification as an intervention is used under which of the following strategies to combat public nutrition problems ?

1. Nutrient based strategy
2. Medicinal strategy
3. Diet based strategy
4. Supplement based strategy

Options :

485584146225. 1
485584146226. 2
485584146227. 3
485584146228. 4

Question Number : 172 Question Id : 48558436557 Question Type : MCQ Option Shuffling : No Is Question Mandatory : No Calculator : None Response Time : N.A Think Time : N.A Minimum Instruction Time : 0

Correct Marks : 5 Wrong Marks : 1

Question Key Details :

Key	Value
Comprehension	MCQ

பாதுகாத்து வைத்தல் என்பது கீழ்க்கண்ட எந்த ஒன்றில் பொதுஜன ஊட்டச்சத்து பிரச்சனைகளை தடுக்கப்பயனாகிறது?

1. ஊட்டச்சத்து சார்ந்த உத்தி
2. மருந்து சார்ந்த உத்தி
3. உணவு சார்ந்த உத்தி
4. உடன் சேர்க்கை பொருள் சார்ந்த உத்தி

Options :

485584146225. 1
485584146226. 2
485584146227. 3
485584146228. 4

Question Number : 173 Question Id : 48558436558 Question Type : MCQ Option Shuffling : No Is Question Mandatory : No Calculator : None Response Time : N.A Think Time : N.A Minimum Instruction Time : 0

Correct Marks : 5 Wrong Marks : 1

Question Key Details :

Key	Value
Comprehension	MCQ

Which of the following is referred to as "Hidden Hunger" in the context of nutritional problems?

1. Micronutrient deficiencies
2. Malnutrition
3. Stunting
4. Wasting

Options :

485584146229. 1
485584146230. 2
485584146231. 3
485584146232. 4

Question Number : 173 Question Id : 48558436558 Question Type : MCQ Option Shuffling : No Is Question Mandatory : No Calculator : None Response Time : N.A Think Time : N.A Minimum Instruction Time : 0

Correct Marks : 5 Wrong Marks : 1

Question Key Details :

Key	Value
Comprehension	MCQ

ஊட்டச்சத்து பிரச்சனைகளின் அடிப்படையில் கீழ்க்கண்ட எந்த ஒன்று மறைவான பட்டினி என அழைக்கப்படுகிறது?

1. நுண்சத்து குறைபாடுகள்
2. ஊட்டச்சத்து குறைபாடு
3. வளர்ச்சியை தடுத்தல்
4. வீணாக்குதல்

Options :

485584146229. 1
485584146230. 2
485584146231. 3
485584146232. 4

Question Number : 174 Question Id : 48558436559 Question Type : MCQ Option Shuffling : No Is Question Mandatory : No Calculator : None Response Time : N.A Think Time : N.A Minimum Instruction Time : 0

Correct Marks : 5 Wrong Marks : 1

Question Key Details :

Key	Value
Comprehension	MCQ

Which of the following government body framed the National Nutrition Policy (NNP) of India in the year 1993?

1. Department of Women and Child Development
2. Ministry of Health and Family Welfare
3. Department of Science and Technology
4. Ministry of Consumer Affairs

Options :

485584146233. 1
485584146234. 2
485584146235. 3
485584146236. 4

Question Number : 174 Question Id : 48558436559 Question Type : MCQ Option Shuffling : No Is Question Mandatory : No Calculator : None Response Time : N.A Think Time : N.A Minimum Instruction Time : 0

Correct Marks : 5 Wrong Marks : 1

Question Key Details :

Key	Value
Comprehension	MCQ

1993-இல் கீழ்க்கண்ட எந்த அரசு அமைப்பு இந்திய தேசிய ஊட்டச்சத்து திட்டத்தை வடிவமைத்தது?

1. குழந்தைகள் மற்றும் பெண்கள் நலவாழ்வுத் துறை
2. நலவாழ்வு மற்றும் குடும்ப நல அமைச்சகம்
3. அறிவியல் மற்றும் தொழில்நுட்ப அமைச்சகம்
4. நுகர்வோர் நல அமைச்சகம்

Options :

485584146233. 1
485584146234. 2
485584146235. 3
485584146236. 4

Question Number : 175 Question Id : 48558436560 Question Type : MCQ Option Shuffling : No Is Question Mandatory : No Calculator : None Response Time : N.A Think Time : N.A Minimum Instruction Time : 0

Correct Marks : 5 Wrong Marks : 1

Question Key Details :

Key	Value
Comprehension	MCQ

Arrange the organizational structure / hierarchy followed by housekeeping department from top to bottom.

- A. Assistant housekeeper
- B. Room attendant
- C. Executive housekeeper
- D. Housemen
- E. Floor supervisor

Choose the correct answer from the options given below:

1. A, B, C, D, E
2. C, A, E, D, B
3. A, C, E, B, D
4. C, A, E, B, D

Options :

485584146237. 1
485584146238. 2
485584146239. 3
485584146240. 4

Question Number : 175 Question Id : 48558436560 Question Type : MCQ Option Shuffling : No Is Question Mandatory : No Calculator : None Response Time : N.A Think Time : N.A Minimum Instruction Time : 0

Correct Marks : 5 Wrong Marks : 1

Question Key Details :

Key	Value
Comprehension	MCQ

ஹவுஸ்கீப்பிங் துறை முதல் முதல் இறுதி வரையிலான நிறுவன அமைப்பு எது?

- A. உதவி ஹவுஸ்கீப்பர்
- B. அறை உதவியாளர்
- C. முதன்மை ஹவுஸ்கீப்பர்
- D. ஹவுஸ்மென்
- E. தள கண்காணிப்பாளர்

கீழே தரப்பட்டுள்ள வாய்ப்புகளில் இருந்து சரியான விடையைத் தேர்ந்தெடுக்கவும்:

- 1. A, B, C, D, E
- 2. C, A, E, D, B
- 3. A, C, E, B, D
- 4. C, A, E, B, D

Options :

- 485584146237. 1
- 485584146238. 2
- 485584146239. 3
- 485584146240. 4

Question Number : 176 Question Id : 48558436561 Question Type : MCQ Option Shuffling : No Is Question Mandatory : No Calculator : None Response Time : N.A Think Time : N.A Minimum Instruction Time : 0

Correct Marks : 5 Wrong Marks : 1

Question Key Details :

Key	Value
Comprehension	MCQ

Give the correct sequence of different stages of apparel production.

- A. Finishing and packaging
- B. Procurement and inspection of raw material
- C. Laying and cutting of fabric / material
- D. Assembly of the product

Choose the correct answer from the options given below:

- 1. A, B, C, D
- 2. B, A, C, D
- 3. D, A, B, C
- 4. B, C, D, A

Options :

- 485584146241. 1

485584146242. 2

485584146243. 3

485584146244. 4

Question Number : 176 Question Id : 48558436561 Question Type : MCQ Option Shuffling : No Is Question Mandatory : No Calculator : None Response Time : N.A Think Time : N.A Minimum Instruction Time : 0

Correct Marks : 5 Wrong Marks : 1

Question Key Details :

Key	Value
Comprehension	MCQ

ஆடைகள் உற்பத்தியின் பல்வேறு படிக்களை சரியான வரிசையில் எழுதுக.

- A. இறுதிசெய்தல் மற்றும் பெட்டியில் சேகரித்தல்
- B. கச்சா பொருட்களை வாங்குதல் மற்றும் ஆய்வு செய்தல்
- C. துணியை விரித்தல் மற்றும் வெட்டுதல்
- D. துண்டுகளை ஒருங்கிணைத்தல்

கீழே தரப்பட்டுள்ள வாய்ப்புகளில் இருந்து சரியான விடையைத் தேர்ந்தெடுக்கவும்:

- 1. A, B, C, D
- 2. B, A, C, D
- 3. D, A, B, C
- 4. B, C, D, A

Options :

485584146241. 1

485584146242. 2

485584146243. 3

485584146244. 4

Question Number : 177 Question Id : 48558436562 Question Type : MCQ Option Shuffling : No Is Question Mandatory : No Calculator : None Response Time : N.A Think Time : N.A Minimum Instruction Time : 0

Correct Marks : 5 Wrong Marks : 1

Question Key Details :

Key	Value
Comprehension	MCQ

Arrange the given steps of nutritional care during illness in the correct sequence.

- A. Assessing nutritional status
- B. Planning and prioritising nutrition intervention(s)
- C. Diagnosis of nutritional problems
- D. Making changes in the nutritional care outcomes, if necessary
- E. Evaluating nutritional care outcomes

Choose the correct answer from the options given below:

- 1. C, B, A, D, E
- 2. C, E, B, A, D
- 3. A, C, B, E, D
- 4. A, C, B, D, E

Options :

- 485584146245. 1
- 485584146246. 2
- 485584146247. 3
- 485584146248. 4

Question Number : 177 Question Id : 48558436562 Question Type : MCQ Option Shuffling : No Is Question Mandatory : No Calculator : None Response Time : N.A Think Time : N.A Minimum Instruction Time : 0

Correct Marks : 5 Wrong Marks : 1

Question Key Details :

Key	Value
Comprehension	MCQ

உடல்நலம் பாதிக்கப்பட்டிருக்கும்போது ஒருவர் மேற்கொள்ள வேண்டிய ஊட்டச்சத்து பாதுகாப்பு செயல்முறையின் படிகளை வரிசைப்படுத்து.

- A. ஊட்டச்சத்து நிலையை அளவிடுதல்
- B. முன்னுரிமை அடிப்படையில் தரப்படவேண்டிய ஊட்டச்சத்துக்களின் வரிசையை திட்டமிடல்
- C. ஊட்டச்சத்து பிரச்சனையை கண்டறிதல்
- D. தேவைப்படின் ஏற்கனவே தந்து கொண்டுள்ள ஊட்டச்சத்து மாற்றி அமைத்தல்
- E. ஊட்டச்சத்து கொடுத்தபின் ஏற்படும் பின்விளைவுகளை அளவிடுதல்

கீழே தரப்பட்டுள்ள வாய்ப்புகளில் இருந்து சரியான விடையைத் தேர்ந்தெடுக்கவும்:

- 1. C, B, A, D, E
- 2. C, E, B, A, D
- 3. A, C, B, E, D
- 4. A, C, B, D, E

Options :

485584146245. 1
485584146246. 2
485584146247. 3
485584146248. 4

Question Number : 178 Question Id : 48558436563 Question Type : MCQ Option Shuffling : No Is Question Mandatory : No Calculator : None Response Time : N.A Think Time : N.A Minimum Instruction Time : 0

Correct Marks : 5 Wrong Marks : 1

Question Key Details :

Key	Value
Comprehension	MCQ

Which of the following is NOT a department/sector in hospitality industry?

1. Recruitment and staffing
2. Entertainment and recreation
3. Accommodation or front office
4. Food and beverage service

Options :

485584146249. 1
485584146250. 2
485584146251. 3
485584146252. 4

Question Number : 178 Question Id : 48558436563 Question Type : MCQ Option Shuffling : No Is Question Mandatory : No Calculator : None Response Time : N.A Think Time : N.A Minimum Instruction Time : 0

Correct Marks : 5 Wrong Marks : 1

Question Key Details :

Key	Value
Comprehension	MCQ

விருந்தோம்பல் தொழில்துறையில் கீழ்க்கண்ட எந்த ஒன்று ஒரு பகுயாக அமையாது?

1. பணியாளர் தேர்வு மற்றும் பணியமர்த்துதல்
2. களியாட்டம் மற்றும் பொழுதுபோக்கு
3. தங்குமிடச் சேவை அல்லது முன் அலுவலகம்
4. உணவு மற்றும் மதுபான சேவை

Options :

485584146249. 1
485584146250. 2
485584146251. 3
485584146252. 4

Question Number : 179 Question Id : 48558436564 Question Type : MCQ Option Shuffling : No Is Question Mandatory : No Calculator : None Response Time : N.A Think Time : N.A Minimum Instruction Time : 0

Correct Marks : 5 Wrong Marks : 1

Question Key Details :

Key	Value
Comprehension	MCQ

Which of the following falls under the category of rewards given to sustain high performance employees in an organisation ?

- A. Paid holidays
- B. Tax incentives
- C. Financial packages for children's education
- D. Financial compensation like driver's wages
- E. Disability insurance

Choose the correct answer from the options given below:

- 1. A, C and E only
- 2. A, C and D only
- 3. A, D and E only
- 4. B, C and D only

Options :

- 485584146253. 1
- 485584146254. 2
- 485584146255. 3
- 485584146256. 4

Question Number : 179 Question Id : 48558436564 Question Type : MCQ Option Shuffling : No Is Question Mandatory : No Calculator : None Response Time : N.A Think Time : N.A Minimum Instruction Time : 0

Correct Marks : 5 Wrong Marks : 1

Question Key Details :

Key	Value
Comprehension	MCQ

கீழ்க்கண்ட எந்த வெகுமதிகள் ஒரு நிறுவனத்தில் நீண்ட காலமாக நன்கு பணியாற்றும் பணியாளர்களுக்கு வழங்கப்படுகிறது?

- A. சம்பளத்துடன் விடுமுறை
- B. வரி சலுகை
- C. குழந்தைகள் படிப்பிற்கான நிதி உதவி
- D. வண்டி ஓட்டுபவர்களுக்கான நிதி உதவி
- E. மாற்று திறனாளிகளுக்கான காப்பீடு

கீழே தரப்பட்டுள்ள வாய்ப்புகளில் இருந்து சரியான விடையைத் தேர்ந்தெடுக்கவும்:

- 1. A, C மற்றும் E மட்டும்
- 2. A, C மற்றும் D மட்டும்
- 3. A, D மற்றும் E மட்டும்
- 4. B, C மற்றும் D மட்டும்

Options :

- 485584146253. 1
- 485584146254. 2
- 485584146255. 3
- 485584146256. 4

Question Number : 180 Question Id : 48558436565 Question Type : MCQ Option Shuffling : No Is Question Mandatory : No Calculator : None Response Time : N.A Think Time : N.A Minimum Instruction Time : 0

Correct Marks : 5 Wrong Marks : 1

Question Key Details :

Key	Value
Comprehension	MCQ

Which of the following is NOT a function of human resources/talent management?

- 1. Marketing management
- 2. Getting the best employees
- 3. Retention and redressal
- 4. Training and developing employees

Options :

- 485584146257. 1
- 485584146258. 2
- 485584146259. 3
- 485584146260. 4

Question Number : 180 Question Id : 48558436565 Question Type : MCQ Option Shuffling : No Is Question Mandatory : No Calculator : None Response Time : N.A Think Time : N.A Minimum Instruction Time : 0

Correct Marks : 5 Wrong Marks : 1

Question Key Details :

Key	Value
Comprehension	MCQ

கீழ்க்கண்டவற்றுள் எந்த ஒன்று மனித வள மேம்பாட்டின் ஒரு அங்கம் கிடையாது?

1. சந்தை நிர்வாகம்
2. சிறந்த தொழிலாளர்களை பணியமர்த்துதல்
3. நிலைத்து வைத்திருத்தல் மற்றும் தீர்வு வழங்குதல்
4. பணியாளர் வளர்ச்சி மற்றும் பயிற்சி

Options :

485584146257. 1
485584146258. 2
485584146259. 3
485584146260. 4

Question Number : 181 Question Id : 48558436566 Question Type : MCQ Option Shuffling : No Is Question Mandatory : No Calculator : None Response Time : N.A Think Time : N.A Minimum Instruction Time : 0

Correct Marks : 5 Wrong Marks : 1

Question Key Details :

Key	Value
Comprehension	MCQ

A diet can be modified to meet the medical needs of a patient through which of the following?

- A. Changing consistency and/or texture
- B. Adding supplements
- C. Increase or decrease in the amount of one or more nutrients
- D. Increase or decrease in calorie intake
- E. Making an all fruit diet

Choose the correct answer from the options given below:

1. A, B and E only
2. A, C and E only
3. B, C and D only
4. A, C and D only

Options :

485584146261. 1
485584146262. 2
485584146263. 3
485584146264. 4

Question Number : 181 Question Id : 48558436566 Question Type : MCQ Option Shuffling : No Is Question Mandatory : No Calculator : None Response Time : N.A Think Time : N.A Minimum Instruction Time : 0

Correct Marks : 5 Wrong Marks : 1

Question Key Details :

Key	Value
Comprehension	MCQ

ஒரு நோயாளியின் நோய் அடிப்படையில் கீழ்க்கண்ட எந்த முறையில் அவர் உணவை மாற்றியமைக்கலாம்?

- A. அதன் அடர்வை மற்றும் தன்மையை மாற்றி
- B. உடன் ஊட்டச்சத்துக்களை சேர்த்து
- C. சில ஊட்டச்சத்துக்களை குறைத்தோ அல்லது சேர்த்தோ
- D. உணவின் கலோரி மதிப்பை கூட்டியோ அல்லது குறைத்தோ
- E. பழங்கள் மட்டுமே கொண்ட உணவு கொடுத்து

கீழே தரப்பட்டுள்ள வாய்ப்புகளில் இருந்து சரியான விடையைத் தேர்ந்தெடுக்கவும்:

- 1. A, B மற்றும் E மட்டும்
- 2. A, C மற்றும் E மட்டும்
- 3. B, C மற்றும் D மட்டும்
- 4. A, C மற்றும் D மட்டும்

Options :

- 485584146261. 1
- 485584146262. 2
- 485584146263. 3
- 485584146264. 4

Question Number : 182 Question Id : 48558436567 Question Type : MCQ Option Shuffling : No Is Question Mandatory : No Calculator : None Response Time : N.A Think Time : N.A Minimum Instruction Time : 0

Correct Marks : 5 Wrong Marks : 1

Question Key Details :

Key	Value
Comprehension	MCQ

Shreya wants to design a dress by incorporating rhythm design principle. Which of the following can NOT be used to create rhythm?

- 1. Use of contrasting colours
- 2. Cordation
- 3. Radiation
- 4. Parallelism

Options :

- 485584146265. 1
- 485584146266. 2
- 485584146267. 3
- 485584146268. 4

Question Number : 182 Question Id : 48558436567 Question Type : MCQ Option Shuffling : No Is Question Mandatory : No Calculator : None Response Time : N.A Think Time : N.A Minimum Instruction Time : 0

Correct Marks : 5 Wrong Marks : 1

Question Key Details :

Key	Value
Comprehension	MCQ

ஸ்ரீயா அவர் ஆடையை ரிதம் வடிவமைப்பு தத்துவம் அடிப்படையில் வடிவமைக்க விரும்பினார், எனில் கீழ்க்கண்ட எந்த ஒன்று ரிதம் உருவாக்க பயன்படுத்த இயலாது.

1. ஒன்றுடன் ஒன்று பொருந்தாத நிறங்கள்
2. கார்டேசன்
3. ரேடியேசன்
4. பேரலலிசம்

Options :

485584146265. 1
485584146266. 2
485584146267. 3
485584146268. 4

Question Number : 183 Question Id : 48558436568 Question Type : MCQ Option Shuffling : No Is Question Mandatory : No Calculator : None Response Time : N.A Think Time : N.A Minimum Instruction Time : 0

Correct Marks : 5 Wrong Marks : 1

Question Key Details :

Key	Value
Comprehension	MCQ

Identify the aspects relating to care and maintenance of fabrics:

- A. Keeping the material free of physical damage
- B. Discard clothes if any damage occurs
- C. Refreshing or retaining the appearance by removing stains and dirt
- D. Retaining the textural and visual characteristics
- E. Changing the visual characteristics

Choose the correct answer from the options given below:

1. A, B and C only
2. B, C and D only
3. C, D and E only
4. A, C and D only

Options :

485584146269. 1
485584146270. 2

485584146271. 3

485584146272. 4

Question Number : 183 Question Id : 48558436568 Question Type : MCQ Option Shuffling : No Is Question Mandatory : No Calculator : None Response Time : N.A Think Time : N.A Minimum Instruction Time : 0

Correct Marks : 5 Wrong Marks : 1

Question Key Details :

Key	Value
Comprehension	MCQ

ஆடைகளை பாதுகாப்பாக நீண்ட நாள் வைத்திருக்க பின்பற்றவேண்டிய நடைமுறைகள் யாவை?

- A. ஆடையை பழுதாகாமல் பாதுகாத்தல்
- B. பழுதடைந்த ஆடைகளை தூக்கி போடுதல்
- C. அழுக்கு மற்றும் கரைகளை நீக்கி புதிதாக தோன்றும்படி வைத்திருத்தல்
- D. பார்ப்பதற்கும் தொடுவதற்கும் உகந்த பண்புகளுடன் வைத்திருத்தல்
- E. தோற்ற பண்புகளை மாற்றி அமைத்தல்

கீழே தரப்பட்டுள்ள வாய்ப்புகளில் இருந்து சரியான விடையைத் தேர்ந்தெடுக்கவும்:

- 1. A, B மற்றும் C மட்டும்
- 2. B, C மற்றும் D மட்டும்
- 3. C, D மற்றும் E மட்டும்
- 4. A, C மற்றும் D மட்டும்

Options :

485584146269. 1

485584146270. 2

485584146271. 3

485584146272. 4

Question Number : 184 Question Id : 48558436569 Question Type : MCQ Option Shuffling : No Is Question Mandatory : No Calculator : None Response Time : N.A Think Time : N.A Minimum Instruction Time : 0

Correct Marks : 5 Wrong Marks : 1

Question Key Details :

Key	Value
Comprehension	MCQ

Which of the following does NOT fall under the category of straight lines ?

- 1. Vertical
- 2. Zig-zag
- 3. Horizontal
- 4. Diagonal

Options :

485584146273. 1
485584146274. 2
485584146275. 3
485584146276. 4

Question Number : 184 Question Id : 48558436569 Question Type : MCQ Option Shuffling : No Is Question Mandatory : No Calculator : None Response Time : N.A Think Time : N.A Minimum Instruction Time : 0

Correct Marks : 5 Wrong Marks : 1

Question Key Details :

Key	Value
Comprehension	MCQ

கீழ்க்கண்டவற்றில் எந்த ஒன்று நேர்கோட்டு வகையில் அமையாது?

1. செங்குத்து
2. ஜிக்-ஜாக்
3. கிடைக்கோடு
4. மூலைவிட்ட கோடு

Options :

485584146273. 1
485584146274. 2
485584146275. 3
485584146276. 4

Question Number : 185 Question Id : 48558436570 Question Type : MCQ Option Shuffling : No Is Question Mandatory : No Calculator : None Response Time : N.A Think Time : N.A Minimum Instruction Time : 0

Correct Marks : 5 Wrong Marks : 1

Question Key Details :

Key	Value
Comprehension	MCQ

Match List I with List II

LIST I (Processed foods)		LIST II (Examples)	
A.	Preserved foods	I.	Low sodium salt
B.	Manufactured foods	II.	Canned fruits
C.	Formulated foods	III.	Papads
D.	Medical foods	IV.	Ice creams

Choose the correct answer from the options given below:

1. A-I, B-II, C-III, D-IV
2. A-II, B-III, C-I, D-IV
3. A-III, B-II, C-I, D-IV
4. A-II, B-III, C-IV, D-I

Options :

485584146277. 1
485584146278. 2
485584146279. 3
485584146280. 4

Question Number : 185 Question Id : 48558436570 Question Type : MCQ Option Shuffling : No Is Question Mandatory : No Calculator : None Response Time : N.A Think Time : N.A Minimum Instruction Time : 0

Correct Marks : 5 Wrong Marks : 1

Question Key Details :

Key	Value
Comprehension	MCQ

பட்டியல் I ஐ பட்டியல் II உடன் பொருத்துக

பட்டியல் I (பதப்படுத்தப்பட்ட உணவு)		பட்டியல் II (உதாரணம்)	
A.	பதப்படுத்தப்பட்ட உணவுகள்	I.	குறைந்த சோடியம் உப்பு
B.	உற்பத்தி செய்யப்பட்ட உணவுகள்	II.	கேனில் அடைக்கப்பட்ட பழங்கள்
C.	கூட்டி சேர்க்கப்பட்ட உணவுகள்	III.	அப்பளம்
D.	மருத்துவ உணவுகள்	IV.	ஐஸ் கிரீம்

கீழே தரப்பட்டுள்ள வாய்ப்புகளில் இருந்து சரியான விடையைத் தேர்ந்தெடுக்கவும்:

1. A-I, B-II, C-III, D-IV
2. A-II, B-III, C-I, D-IV
3. A-III, B-II, C-I, D-IV
4. A-II, B-III, C-IV, D-I

Options :

485584146277. 1

485584146278. 2
485584146279. 3
485584146280. 4

Question Number : 186 Question Id : 48558436571 Question Type : MCQ Option Shuffling : No Is Question Mandatory : No Calculator : None Response Time : N.A Think Time : N.A Minimum Instruction Time : 0

Correct Marks : 5 Wrong Marks : 1

Question Key Details :

Key	Value
Comprehension	MCQ

Match List I with List II

LIST I (Terms)		LIST II (Explanation)	
A.	Food Quality	I.	Assurance that food will not cause any harm to the consumers
B.	Toxicity	II.	Relative probability that harm or injury will result when substance is not used in prescribed manner and quantity
C.	Food Safety	III.	Capacity of a substance to produce harm or injury of any kind under any conditions
D.	Hazard	IV.	Attributes that influence a product's value to consumers

Choose the correct answer from the options given below:

1. A-IV, B-III, C-I, D-II
2. A-I, B-II, C-III, D-IV
3. A-I, B-IV, C-II, D-III
4. A-IV, B-III, C-II, D-I

Options :

485584146281. 1
485584146282. 2
485584146283. 3
485584146284. 4

Question Number : 186 Question Id : 48558436571 Question Type : MCQ Option Shuffling : No Is Question Mandatory : No Calculator : None Response Time : N.A Think Time : N.A Minimum Instruction Time : 0

Correct Marks : 5 Wrong Marks : 1

Question Key Details :

Key	Value
Comprehension	MCQ

பட்டியல் I ஐ பட்டியல் II உடன் பொருத்துக

பட்டியல் I (விதிகள்)		பட்டியல் II (விளக்கம்)	
A.	உணவு தரம்	I.	நுகர்வோருக்கு உணவு எந்த பாதிப்பையும் ஏற்படுத்தாது என உறுதியளிக்கிறது
B.	விஷத்தன்மை	II.	பொருள் குறிப்பிட்ட முறையில் மற்றும் அளவில் பயன்படுத்தப்படவில்லை எனில் அதில் ஏற்படும் சாத்தியமான ஒப்புமை தீங்கு
C.	உணவு பாதுகாப்பு	III.	எந்தவொரு நிபந்தனையிலும் ஒரு பொருள் தீங்கை ஏற்படுத்தும் திறன்
D.	தீங்கு	IV.	ஒரு பொருளின் தரத்தை நுகர்வோருக்கு உணர்த்தக் கூடியது

கீழே தரப்பட்டுள்ள வாய்ப்புகளில் இருந்து சரியான விடையைத் தேர்ந்தெடுக்கவும்:

1. A-IV, B-III, C-I, D-II
2. A-I, B-II, C-III, D-IV
3. A-I, B-IV, C-II, D-III
4. A-IV, B-III, C-II, D-I

Options :

485584146281. 1
485584146282. 2
485584146283. 3
485584146284. 4

Question Number : 187 Question Id : 48558436572 Question Type : MCQ Option Shuffling : No Is Question Mandatory : No Calculator : None Response Time : N.A Think Time : N.A Minimum Instruction Time : 0

Correct Marks : 5 Wrong Marks : 1

Question Key Details :

Key	Value
Comprehension	MCQ

Match List I with List II

LIST I (Extension Projects)		LIST II (Communication tools used)	
A.	RRE	I.	Satellite
B.	SEWA	II.	Print media
C.	Project Village Chhatera	III.	Campaign
D.	EDUSAT	IV.	ICT

Choose the correct answer from the options given below:

1. A-II, B-I, C-IV, D-III
2. A-IV, B-I, C-III, D-II
3. A-III, B-IV, C-II, D-I
4. A-II, B-III, C-I, D-IV

Options :

485584146285. 1
485584146286. 2
485584146287. 3
485584146288. 4

Question Number : 187 Question Id : 48558436572 Question Type : MCQ Option Shuffling : No Is Question Mandatory : No Calculator : None Response Time : N.A Think Time : N.A Minimum Instruction Time : 0

Correct Marks : 5 Wrong Marks : 1

Question Key Details :

Key	Value
Comprehension	MCQ

பட்டியல் I ஐ பட்டியல் II உடன் பொருத்துக

பட்டியல் I (நீட்டிக்கப்பட்ட திட்டம்)		பட்டியல் II (தொடர்பு ஏற்படுத்தும் அமைப்பு)	
A.	RRE	I.	செயற்கைக்கோள்
B.	SEWA	II.	ஆச்சு ஊடகம்
C.	சட்டிரா கிராமத் திட்டம்	III.	பரப்புரை
D.	EDUSAT	IV.	ICT

கீழே தரப்பட்டுள்ள வாய்ப்புகளில் இருந்து சரியான விடையைத் தேர்ந்தெடுக்கவும்:

1. A-II, B-I, C-IV, D-III
2. A-IV, B-I, C-III, D-II
3. A-III, B-IV, C-II, D-I
4. A-II, B-III, C-I, D-IV

Options :

485584146285. 1
485584146286. 2
485584146287. 3
485584146288. 4

Question Number : 188 Question Id : 48558436573 Question Type : MCQ Option Shuffling : No Is Question Mandatory : No Calculator : None Response Time : N.A Think Time : N.A Minimum Instruction Time : 0

Correct Marks : 5 Wrong Marks : 1

Question Key Details :

Key	Value
Comprehension	MCQ

Match List I with List II

LIST I (Terms)		LIST II (Description)	
A.	Quality Assurance	I.	Process of implementation and monitoring of quality systems like TQM, ISO
B.	Quality control	II.	Process of problem solving with the purpose of getting a 'zero-defect' product
C.	Quality Management	III.	Characteristics of the product that are given by the buyer or desired by the consumer
D.	Specifications	IV.	Process of preventive problem management

Choose the correct answer from the options given below:

1. A-IV, B-II, C-I, D-III
2. A-IV, B-I, C-II, D-III
3. A-IV, B-II, C-III, D-I
4. A-I, B-II, C-IV, D-III

Options :

485584146289. 1
485584146290. 2
485584146291. 3
485584146292. 4

Question Number : 188 Question Id : 48558436573 Question Type : MCQ Option Shuffling : No Is Question Mandatory : No Calculator : None Response Time : N.A Think Time : N.A Minimum Instruction Time : 0

Correct Marks : 5 Wrong Marks : 1

Question Key Details :

Key	Value
Comprehension	MCQ

பட்டியல் I ஐ பட்டியல் II உடன் பொருத்துக

பட்டியல் I (Terms)		பட்டியல் II (Description)	
A.	தரம் உறுதிப்படுத்துதல்	I.	TQM, ISO போன்ற தரக்கட்டுப்பாடு அமைப்புகளின் செயல்பாடுகளை கண்காணித்து நடைமுறைப்படுத்துதல்
B.	தரக் கட்டுப்பாடு	II.	குறையில்லா பொருட்களை உற்பத்தி செய்யும் பொருட்டு பிரச்சனைகளுக்கு கீர்வு காணுதல்
C.	தர மேலாண்மை	III.	வாங்குபவரின் மற்றும் துகர்வாரின் விருப்பத்துடன் பழுதுபட்ட பொருட்களை வாங்குதலின் பண்பு
D.	பொருள் பற்றிய குறிப்புகள்	IV.	பிரச்சனைகளை தவிர்ப்பதற்காக மேற்கொள்ளப்படும் நடவடிக்கை

கீழே தரப்பட்டுள்ள வாய்ப்புகளில் இருந்து சரியான விடையைத் தேர்ந்தெடுக்கவும்:

1. A-IV, B-II, C-I, D-III
2. A-IV, B-I, C-II, D-III
3. A-IV, B-II, C-III, D-I
4. A-I, B-II, C-IV, D-III

Options :

485584146289. 1
485584146290. 2
485584146291. 3
485584146292. 4

Question Number : 189 Question Id : 48558436574 Question Type : MCQ Option Shuffling : No Is Question Mandatory : No Calculator : None Response Time : N.A Think Time : N.A Minimum Instruction Time : 0

Correct Marks : 5 Wrong Marks : 1

Question Key Details :

Key	Value
Comprehension	MCQ

Match List I with List II

LIST I (Designations)		LIST II (Duties)	
A.	Head waiter	I.	Reserves, registers and assign rooms to guests
B.	Chef-de-cuisine	II.	Supervisors for some sections of the kitchen
C.	Receptionist	III.	Lead a team of waiters/stewards
D.	Chef-de-parties	IV.	Planning, organising and controlling the kitchen operations

Choose the correct answer from the options given below:

1. A-III, B-IV, C-I, D-II
2. A-II, B-IV, C-III, D-I
3. A-I, B-II, C-III, D-IV
4. A-IV, B-II, C-I, D-III

Options :

- 485584146293. 1
- 485584146294. 2
- 485584146295. 3
- 485584146296. 4

Question Number : 189 Question Id : 48558436574 Question Type : MCQ Option Shuffling : No Is Question Mandatory : No Calculator : None Response Time : N.A Think Time : N.A Minimum Instruction Time : 0

Correct Marks : 5 Wrong Marks : 1

Question Key Details :

Key	Value
Comprehension	MCQ

பட்டியல் I ஐ பட்டியல் II உடன் பொருத்துக

பட்டியல் I (பதவி)		பட்டியல் II (வேலை)	
A.	தலைமை வெயிட்டர்	I.	தாங்கும் அறை தேர்ந்தெடுத்தல், பதிவுசெய்தல் மற்றும் அறை வழங்குதல்
B.	செப்-டி- சூய்சன்	II.	சமையல் கூடத்தின் சில பகுதிகளை கண்காணித்தல்
C.	வரவேற்பாளர்	III.	வெயிட்டர் மற்றும் பொறுப்பாளர் குழுவின் தலைவர்
D.	செப்-டி- பார்ட்டி	IV.	சமையல் வேலைகளை திட்டமிடல், ஒருங்கிணைத்தல் மற்றும் கட்டுப்படுத்துதல்

கீழே தரப்பட்டுள்ள வாய்ப்புகளில் இருந்து சரியான விடையைத் தேர்ந்தெடுக்கவும்:

1. A-III, B-IV, C-I, D-II
2. A-II, B-IV, C-III, D-I
3. A-I, B-II, C-III, D-IV
4. A-IV, B-II, C-I, D-III

Options :

485584146293. 1
485584146294. 2
485584146295. 3
485584146296. 4

Question Number : 190 Question Id : 48558436575 Question Type : MCQ Option Shuffling : No Is Question Mandatory : No Calculator : None Response Time : N.A Think Time : N.A Minimum Instruction Time : 0

Correct Marks : 5 Wrong Marks : 1

Question Key Details :

Key	Value
Comprehension	MCQ

Match List I with List II

LIST I (Programme)		LIST II (Target group)	
A.	ICDS	I.	Children under 18 years of age
B.	SOS	II.	College going students
C.	Special homes	III.	Children below six years of age
D.	NSS	IV.	Needy/abandoned children

Choose the correct answer from the options given below:

1. A-I, B-IV, C-II, D-I
2. A-IV, B-III, C-I, D-II
3. A-III, B-IV, C-I, D-II
4. A-IV, B-III, C-II, D-I

Options :

485584146297. 1
485584146298. 2
485584146299. 3
485584146300. 4

Question Number : 190 Question Id : 48558436575 Question Type : MCQ Option Shuffling : No Is Question Mandatory : No Calculator : None Response Time : N.A Think Time : N.A Minimum Instruction Time : 0

Correct Marks : 5 Wrong Marks : 1

Question Key Details :

Key	Value
Comprehension	MCQ

பட்டியல் I ஐ பட்டியல் II உடன் பொருத்துக

பட்டியல் I (குட்டம்)		பட்டியல் II (இலக்கு)	
A.	ICDS	I.	18-வயதுக்கு உட்பட்ட சிறார்கள்
B.	SOS	II.	கல்லூரி மாணவர்கள்
C.	சிறப்பு இல்லம்	III.	6-வயதுக்கு குறைவான குழந்தைகள்
D.	NSS	IV.	அனாதையாக்கப்பட்ட குழந்தைகள்

கீழே தரப்பட்டுள்ள வாய்ப்புகளில் இருந்து சரியான விடையைத் தேர்ந்தெடுக்கவும்:

1. A-I, B-IV, C-II, D-I
2. A-IV, B-III, C-I, D-II
3. A-III, B-IV, C-I, D-II
4. A-IV, B-III, C-II, D-I

Options :

485584146297. 1

485584146298. 2
485584146299. 3
485584146300. 4

Sub-Section Number : 2
Sub-Section Id : 4855842700
Question Shuffling Allowed : No
Is Section Default? : null

Question Number : 191 Question Id : 48558436576 Question Type : MCQ Option Shuffling : No Is Question Mandatory : No Calculator : None Response Time : N.A Think Time : N.A Minimum Instruction Time : 0

Correct Marks : 5 Wrong Marks : 1

Question Key Details :

Key	Value
Comprehension	Comp1

Read the passage carefully. Attempt Question

Anganwadi Centers (AWCs) are the most common and publicly available facilities, initially constituted in 1975 to strengthen the public health system by providing immunization and health check-ups, and later to provide supplementary nutrition non-formal pre-school education and day-care.

The two key elements of early childhood development include education and health. A child's early years (0 to 8 years) form the foundation of all learning and are therefore the most extraordinary period of development in a child's life. Research has shown that greater cognitive abilities and being developmentally on track with literacy and numeracy in childhood provide for better learning in school and higher educational attainment, leading to major social and economic gains for society in the long run. Similarly, providing children with a nurturing environment in early years, with adequate nutrition, hygiene, protection and responsive stimulation, boosts healthy childhood development and delivers positive outcomes.

The Anganwadi centers were started in which year in India?

1. 1975
2. 1980
3. 1982
4. 1984

Options :

485584146301. 1
485584146302. 2
485584146303. 3
485584146304. 4

Question Number : 191 Question Id : 48558436576 Question Type : MCQ Option Shuffling : No Is Question Mandatory : No Calculator : None Response Time : N.A Think Time : N.A Minimum Instruction Time : 0

Correct Marks : 5 Wrong Marks : 1

Question Key Details :

Key	Value
Comprehension	Comp1

அங்கன்வாடி மையங்கள் 1975ஆம் ஆண்டு தடுப்பூசி போடுதல் மற்றும் உடல்நல ஆய்வுகள் செய்து மக்களின் நலவாழ்வை மேம்படுத்த ஆரம்பிக்கப்பட்ட எல்லா இடங்களிலும் உள்ள பொது அமைப்பு ஆகும். பின் இது பகல் நேர பாதுகாப்பு வரையறுக்கப்படாத முன் பள்ளி கற்றல் மற்றும் ஊட்டச்சத்துக்களை வழங்கவும் பயன்படுத்தப்பட்டது. குழந்தைகளின் குழந்தை பருவ வளர்சிக்கு தேவைப்படும் இரண்டு காரணிகள் கல்வி மற்றும் உடல்நலம். குழந்தையின் இளம் வயதில் (0-8ஆண்டுகள்) கற்றலுக்கான அடித்தளம் ஆகும். எனவே இது குழந்தையின் வளர்ச்சியின் முக்கியமான காலம் ஆகும். ஆராய்ச்சிகள் குழந்தை பருவ அதிக புரிதல் திறன் மற்றும் கல்வி அறிவு மற்றும் எண் அறிவு பள்ளி மற்றும் உயர்கல்வி கற்றலின் போது அதிக தாக்கத்தை ஏற்படுத்துவதாக அறியப்படுகிறது. நீண்ட கால நோக்கில் இது சமுதாயத்தில் பெரிய சமூக மற்றும் பொருளாதார மாற்றத்தை ஏற்படுத்தும். அதுபோல சிறார்களுக்கு குழந்தை பருவத்தில் சத்தான, போதுமான, சுத்தமான, பாதுகாப்பான உணவு வழங்கும்போது அதன் காரணமாக உடல்நலத்துடன் குழந்தை பருவ வளர்ச்சி ஏற்படும். இது நல்ல விளைவுகளை ஏற்படுத்தும்.

இந்தியாவில் அங்கன்வாடி மையங்கள் ஏற்படுத்தப்பட்ட ஆண்டு?

1. 1975
2. 1980
3. 1982
4. 1984

Options :

485584146301. 1
 485584146302. 2
 485584146303. 3
 485584146304. 4

Question Number : 192 Question Id : 48558436577 Question Type : MCQ Option Shuffling : No Is Question Mandatory : No Calculator : None Response Time : N.A Think Time : N.A Minimum Instruction Time : 0

Correct Marks : 5 Wrong Marks : 1

Question Key Details :

Key	Value
Comprehension	Comp1

Read the passage carefully. Attempt Question

Anganwadi Centers (AWCs) are the most common and publicly available facilities, initially constituted in 1975 to strengthen the public health system by providing immunization and health check-ups, and later to provide supplementary nutrition non-formal pre-school education and day-care.

The two key elements of early childhood development include education and health. A child's early years (0 to 8 years) form the foundation of all learning and are therefore the most extraordinary period of development in a child's life. Research has shown that greater cognitive abilities and being developmentally on track with literacy and numeracy in childhood provide for better learning in school and higher educational attainment, leading to major social and economic gains for society in the long run. Similarly, providing children with a nurturing environment in early years, with adequate nutrition, hygiene, protection and responsive stimulation, boosts healthy childhood development and delivers positive outcomes.

Identify the functions of the Anganvadi centres from the following:

- A. Providing immunisation
- B. Supplementary nutrition
- C. Non-formal pre-school education
- D. Supporting children in doing home-work after school

Choose the correct answer from the options given below:

- 1. B, C and D only
- 2. A, B and D only
- 3. A, B and C only
- 4. A, D and C only

Options :

- 485584146305. 1
- 485584146306. 2
- 485584146307. 3
- 485584146308. 4

Question Number : 192 Question Id : 48558436577 Question Type : MCQ Option Shuffling : No Is Question Mandatory : No Calculator : None Response Time : N.A Think Time : N.A Minimum Instruction Time : 0

Correct Marks : 5 Wrong Marks : 1

Question Key Details :

Key	Value
Comprehension	Comp1

அங்கன்வாடி மையங்கள் 1975ஆம் ஆண்டு தடுப்பூசி போடுதல் மற்றும் உடல்நல ஆய்வுகள் செய்து மக்களின் நலவாழ்வை மேம்படுத்த ஆரம்பிக்கப்பட்ட எல்லா இடங்களிலும் உள்ள பொது அமைப்பு ஆகும். பின் இது பகல் நேர பாதுகாப்பு வரையறுக்கப்படாத முன் பள்ளி கற்றல் மற்றும் ஊட்டச்சத்துக்களை வழங்கவும் பயன்படுத்தப்பட்டது. குழந்தைகளின் குழந்தை பருவ வளர்சிக்கு தேவைப்படும் இரண்டு காரணிகள் கல்வி மற்றும் உடல்நலம். குழந்தையின் இளம் வயதில் (0-8ஆண்டுகள்) கற்றலுக்கான அடித்தளம் ஆகும். எனவே இது குழந்தையின் வளர்ச்சியின் முக்கியமான காலம் ஆகும். ஆராய்ச்சிகள் குழந்தை பருவ அதிக புரிதல் திறன் மற்றும் கல்வி அறிவு மற்றும் எண் அறிவு பள்ளி மற்றும் உயர்கல்வி கற்றலின் போது அதிக தாக்கத்தை ஏற்படுத்துவதாக அறியப்படுகிறது. நீண்ட கால நோக்கில் இது சமுதாயத்தில் பெரிய சமூக மற்றும் பொருளாதார மாற்றத்தை ஏற்படுத்தும். அதுபோல சிறார்கள்க்கு குழந்தை பருவத்தில் சத்தான, போதுமான, சுத்தமான, பாதுகாப்பான உணவு வழங்கும்போது அதன் காரணமாக உடல்நலத்துடன் குழந்தை பருவ வளர்ச்சி ஏற்படும். இது நல்ல விளைவுகளை ஏற்படுத்தும்.

ஒரு அங்கன்வாடி மையத்தின் செயல்பாடுகள் யாவை?

- A. தடுப்பூசி வழங்குதல்
- B. ஊட்டச்சத்து வழங்குதல்
- C. சம்பிரதாயமற்ற பள்ளி செல்வதற்கான கல்வி
- D. பள்ளி முடிந்த பின் பள்ளியின் வீட்டுப்பாடங்கள் செய்ய உதவுதல்

கீழே தரப்பட்டுள்ள வாய்ப்புகளில் இருந்து சரியான விடையைத் தேர்ந்தெடுக்கவும்:

1. B, C மற்றும் D மட்டும்
2. A, B மற்றும் D மட்டும்
3. A, B மற்றும் C மட்டும்
4. A, D மற்றும் C மட்டும்

Options :

- 485584146305. 1
- 485584146306. 2
- 485584146307. 3
- 485584146308. 4

Question Number : 193 Question Id : 48558436578 Question Type : MCQ Option Shuffling : No Is Question Mandatory : No Calculator : None Response Time : N.A Think Time : N.A Minimum Instruction Time : 0

Correct Marks : 5 Wrong Marks : 1

Question Key Details :

Key	Value
Comprehension	Comp1

Read the passage carefully. Attempt Question

Anganwadi Centers (AWCs) are the most common and publicly available facilities, initially constituted in 1975 to strengthen the public health system by providing immunization and health check-ups, and later to provide supplementary nutrition non-formal pre-school education and day-care.

The two key elements of early childhood development include education and health. A child's early years (0 to 8 years) form the foundation of all learning and are therefore the most extraordinary period of development in a child's life. Research has shown that greater cognitive abilities and being developmentally on track with literacy and numeracy in childhood provide for better learning in school and higher educational attainment, leading to major social and economic gains for society in the long run. Similarly, providing children with a nurturing environment in early years, with adequate nutrition, hygiene, protection and responsive stimulation, boosts healthy childhood development and delivers positive outcomes.

The two key elements of early childhood development are _____

1. Nutrition and immunisation
2. Health and education
3. School readiness and health
4. Day care and creche

Options :

- 485584146309. 1
- 485584146310. 2
- 485584146311. 3
- 485584146312. 4

Question Number : 193 Question Id : 48558436578 Question Type : MCQ Option Shuffling : No Is Question Mandatory : No Calculator : None Response Time : N.A Think Time : N.A Minimum Instruction Time : 0

Correct Marks : 5 Wrong Marks : 1

Question Key Details :

Key	Value
Comprehension	Comp1

அங்கன்வாடி மையங்கள் 1975ஆம் ஆண்டு தடுப்பூசி போடுதல் மற்றும் உடல்நல ஆய்வுகள் செய்து மக்களின் நலவாழ்வை மேம்படுத்த ஆரம்பிக்கப்பட்ட எல்லா இடங்களிலும் உள்ள பொது அமைப்பு ஆகும். பின் இது பகல் நேர பாதுகாப்பு வரையறுக்கப்படாத முன் பள்ளி கற்றல் மற்றும் ஊட்டச்சத்துக்களை வழங்கவும் பயன்படுத்தப்பட்டது. குழந்தைகளின் குழந்தை பருவ வளர்சிக்கு தேவைப்படும் இரண்டு காரணிகள் கல்வி மற்றும் உடல்நலம். குழந்தையின் இளம் வயதில் (0-8ஆண்டுகள்) கற்றலுக்கான அடித்தளம் ஆகும். எனவே இது குழந்தையின் வளர்ச்சியின் முக்கியமான காலம் ஆகும். ஆராய்ச்சிகள் குழந்தை பருவ அதிக புரிதல் திறன் மற்றும் கல்வி அறிவு மற்றும் எண் அறிவு பள்ளி மற்றும் உயர்கல்வி கற்றலின் போது அதிக தாக்கத்தை ஏற்படுத்துவதாக அறியப்படுகிறது. நீண்ட கால நோக்கில் இது சமுதாயத்தில் பெரிய சமூக மற்றும் பொருளாதார மாற்றத்தை ஏற்படுத்தும். அதுபோல சிறார்கள்க்கு குழந்தை பருவத்தில் சத்தான, போதுமான, சுத்தமான, பாதுகாப்பான உணவு வழங்கும்போது அதன் காரணமாக உடல்நலத்துடன் குழந்தை பருவ வளர்ச்சி ஏற்படும். இது நல்ல விளைவுகளை ஏற்படுத்தும்.

குழந்தைகளின் ஆரம்ப வளர்ச்சியின் இரண்டு முக்கிய கூறுகள் யாவை?

1. ஊட்டச்சத்து மற்றும் தடுப்பூசி போடுதல்
2. நலவாழ்வு மற்றும் கல்வி
3. பள்ளிக்கு தயாராதல் மற்றும் நலவாழ்வு
4. பகல் நேர பாதுகாப்பு மற்றும் கிரீச்

Options :

485584146309. 1
 485584146310. 2
 485584146311. 3
 485584146312. 4

Question Number : 194 Question Id : 48558436579 Question Type : MCQ Option Shuffling : No Is Question Mandatory : No Calculator : None Response Time : N.A Think Time : N.A Minimum Instruction Time : 0

Correct Marks : 5 Wrong Marks : 1

Question Key Details :

Key	Value
Comprehension	Comp1

Read the passage carefully. Attempt Question

Anganwadi Centers (AWCs) are the most common and publicly available facilities, initially constituted in 1975 to strengthen the public health system by providing immunization and health check-ups, and later to provide supplementary nutrition non-formal pre-school education and day-care.

The two key elements of early childhood development include education and health. A child's early years (0 to 8 years) form the foundation of all learning and are therefore the most extraordinary period of development in a child's life. Research has shown that greater cognitive abilities and being developmentally on track with literacy and numeracy in childhood provide for better learning in school and higher educational attainment, leading to major social and economic gains for society in the long run. Similarly, providing children with a nurturing environment in early years, with adequate nutrition, hygiene, protection and responsive stimulation, boosts healthy childhood development and delivers positive outcomes.

The period of laying the foundation of all learning and rapid development during early childhood development is _____.

- 1. 3 to 6 years
- 2. 0 to 8 years
- 3. 1 to 2 years
- 4. 0 to 2 years

Options :

- 485584146313. 1
- 485584146314. 2
- 485584146315. 3
- 485584146316. 4

Question Number : 194 Question Id : 48558436579 Question Type : MCQ Option Shuffling : No Is Question Mandatory : No Calculator : None Response Time : N.A Think Time : N.A Minimum Instruction Time : 0

Correct Marks : 5 Wrong Marks : 1

Question Key Details :

Key	Value
Comprehension	Comp1

அங்கன்வாடி மையங்கள் 1975ஆம் ஆண்டு தடுப்பூசி போடுதல் மற்றும் உடல்நல ஆய்வுகள் செய்து மக்களின் நலவாழ்வை மேம்படுத்த ஆரம்பிக்கப்பட்ட எல்லா இடங்களிலும் உள்ள பொது அமைப்பு ஆகும். பின் இது பகல் நேர பாதுகாப்பு வரையறுக்கப்படாத முன் பள்ளி கற்றல் மற்றும் ஊட்டச்சத்துக்களை வழங்கவும் பயன்படுத்தப்பட்டது. குழந்தைகளின் குழந்தை பருவ வளர்சிக்கு தேவைப்படும் இரண்டு காரணிகள் கல்வி மற்றும் உடல்நலம். குழந்தையின் இளம் வயதில் (0-8ஆண்டுகள்) கற்றலுக்கான அடித்தளம் ஆகும். எனவே இது குழந்தையின் வளர்ச்சியின் முக்கியமான காலம் ஆகும். ஆராய்ச்சிகள் குழந்தை பருவ அதிக புரிதல் திறன் மற்றும் கல்வி அறிவு மற்றும் எண் அறிவு பள்ளி மற்றும் உயர்கல்வி கற்றலின் போது அதிக தாக்கத்தை ஏற்படுத்துவதாக அறியப்படுகிறது. நீண்ட கால நோக்கில் இது சமுதாயத்தில் பெரிய சமூக மற்றும் பொருளாதார மாற்றத்தை ஏற்படுத்தும். அதுபோல சிறார்களுக்கு குழந்தை பருவத்தில் சத்தான, போதுமான, சுத்தமான, பாதுகாப்பான உணவு வழங்கும்போது அதன் காரணமாக உடல்நலத்துடன் குழந்தை பருவ வளர்ச்சி ஏற்படும். இது நல்ல விளைவுகளை ஏற்படுத்தும்.

குழந்தைகளின் அனைத்து விதமான கற்றல் மற்றும் வேகமான வளர்ச்சி கீழ்க்கண்ட எத்தனை வயதில் நடைபெறுகிறது.

1. 3 - 6 ஆண்டுகள்
2. 0 - 8 ஆண்டுகள்
3. 1 - 2 ஆண்டுகள்
4. 0 - 2 ஆண்டுகள்

Options :

485584146313. 1
 485584146314. 2
 485584146315. 3
 485584146316. 4

Question Number : 195 Question Id : 48558436580 Question Type : MCQ Option Shuffling : No Is Question Mandatory : No Calculator : None Response Time : N.A Think Time : N.A Minimum Instruction Time : 0

Correct Marks : 5 Wrong Marks : 1

Question Key Details :

Key	Value
Comprehension	Comp1

Read the passage carefully. Attempt Question

Anganwadi Centers (AWCs) are the most common and publicly available facilities, initially constituted in 1975 to strengthen the public health system by providing immunization and health check-ups, and later to provide supplementary nutrition non-formal pre-school education and day-care.

The two key elements of early childhood development include education and health. A child's early years (0 to 8 years) form the foundation of all learning and are therefore the most extraordinary period of development in a child's life. Research has shown that greater cognitive abilities and being developmentally on track with literacy and numeracy in childhood provide for better learning in school and higher educational attainment, leading to major social and economic gains for society in the long run. Similarly, providing children with a nurturing environment in early years, with adequate nutrition, hygiene, protection and responsive stimulation, boosts healthy childhood development and delivers positive outcomes.

To boost healthy childhood and getting positive outcomes in ECCE, which of the following needs to be provided?

- A. Adequate nutrition
- B. Responsive stimulation
- C. Hygiene
- D. Toys and games
- E. Immunisation

Choose the correct answer from the options given below:

1. A, B and C only
2. A, B and D only
3. B, C and D only
4. C, D and E only

Options :

- 485584146317. 1
- 485584146318. 2
- 485584146319. 3
- 485584146320. 4

Question Number : 195 Question Id : 48558436580 Question Type : MCQ Option Shuffling : No Is Question Mandatory : No Calculator : None Response Time : N.A Think Time : N.A Minimum Instruction Time : 0

Correct Marks : 5 Wrong Marks : 1

Question Key Details :

Key	Value
Comprehension	Comp1

அங்கன்வாடி மையங்கள் 1975ஆம் ஆண்டு தடுப்பூசி போடுதல் மற்றும் உடல்நல ஆய்வுகள் செய்து மக்களின் நலவாழ்வை மேம்படுத்த ஆரம்பிக்கப்பட்ட எல்லா இடங்களிலும் உள்ள பொது அமைப்பு ஆகும். பின் இது பகல் நேர பாதுகாப்பு வரையறுக்கப்படாத முன் பள்ளி கற்றல் மற்றும் ஊட்டச்சத்துக்களை வழங்கவும் பயன்படுத்தப்பட்டது. குழந்தைகளின் குழந்தை பருவ வளர்சிக்கு தேவைப்படும் இரண்டு காரணிகள் கல்வி மற்றும் உடல்நலம். குழந்தையின் இளம் வயதில் (0-8ஆண்டுகள்) கற்றலுக்கான அடித்தளம் ஆகும். எனவே இது குழந்தையின் வளர்ச்சியின் முக்கியமான காலம் ஆகும். ஆராய்ச்சிகள் குழந்தை பருவ அதிக புரிதல் திறன் மற்றும் கல்வி அறிவு மற்றும் எண் அறிவு பள்ளி மற்றும் உயர்கல்வி கற்றலின் போது அதிக தாக்கத்தை ஏற்படுத்துவதாக அறியப்படுகிறது. நீண்ட கால நோக்கில் இது சமுதாயத்தில் பெரிய சமூக மற்றும் பொருளாதார மாற்றத்தை ஏற்படுத்தும். அதுபோல சிறார்கள்க்கு குழந்தை பருவத்தில் சத்தான, போதுமான, சுத்தமான, பாதுகாப்பான உணவு வழங்கும்போது அதன் காரணமாக உடல்நலத்துடன் குழந்தை பருவ வளர்ச்சி ஏற்படும். இது நல்ல விளைவுகளை ஏற்படுத்தும்.

ECCE-யில் நேர்மறை வெளிப்பாடு மற்றும் ஆரோக்கியமான குழந்தைப்பருவ வளர்ச்சிக்கு தேவையானவை எவை?

- A. போதிய ஊட்டச்சத்து
- B. பொறுப்பான தூண்டுதல்கள்
- C. சுகாதாரம்
- D. பொம்மைகள் மற்றும் விளையாட்டு
- E. தடுப்பூசி போடுதல்

கீழே தரப்பட்டுள்ள வாய்ப்புகளில் இருந்து சரியான விடையைத் தேர்ந்தெடுக்கவும்:

1. A, B மற்றும் C மட்டும்
2. A, B மற்றும் D மட்டும்
3. B, C மற்றும் D மட்டும்
4. C, D மற்றும் E மட்டும்

Options :

- 485584146317. 1
- 485584146318. 2
- 485584146319. 3
- 485584146320. 4

Sub-Section Number :

3

Sub-Section Id :

4855842701

Question Shuffling Allowed :

No

Is Section Default? :

null

Question Number : 196 Question Id : 48558436581 Question Type : MCQ Option Shuffling : No Is Question Mandatory : No Calculator : None Response Time : N.A Think Time : N.A Minimum Instruction Time : 0

Correct Marks : 5 Wrong Marks : 1

Question Key Details :

Key	Value
Comprehension	Comp2

Read the passage carefully. Attempt Question

Consumers not only purchase products but a whole gamut of services like those of banks, other financial institutions, airlines and travel agencies; hospitals and other medical practitioners; public utilities like garbage collection, cleanliness and maintenance of roads, parks, etc; electricity water telephone, post and telegraph; educational institutions and so on.

Consumers face a number of problems with regard to these services like excessive billing, being charged but not delivering the service, gap between promised level of service and service that is delivered, overstating the service attributes and enticing the consumer, making false claims and so on.

Gap between service delivery and external communication is a consumer issue. Consumer expectations are affected by promises made by the service provider in his external communication which may be through brochures, advertisements, personal selling etc. E.g. If a resort hotel brochure shows a beautiful room but the guests arrive and find the room to be cheap and very ordinary. Many a times people make advance bookings based on the brochures or seeing the website or some other advertisements. In such bookings sometimes advance also has to be paid. If the customer does not like the room ambience he may be left with little choice since refunds are not given by many hotels.

Many private educational institutions assure jobs to students after completion of course which eventually does not happen. Which service-related consumer problem is depicted in this example ?

1. Excessive billings
2. Being charged but not delivering the service
3. Making false claims
4. Overstating the service attributes

Options :

485584146321. 1
 485584146322. 2
 485584146323. 3
 485584146324. 4

Question Number : 196 Question Id : 48558436581 Question Type : MCQ Option Shuffling : No Is Question Mandatory : No Calculator : None Response Time : N.A Think Time : N.A Minimum Instruction Time : 0

Correct Marks : 5 Wrong Marks : 1

Question Key Details :

Key	Value
Comprehension	Comp2

நுகர்வோர்கள் என்போர் பொருட்களை வாங்குபவர் மட்டும் அல்ல அதைத் தவிர பல்வேறு சேவைகளை வங்கி, மற்ற நிதி நிறுவனங்கள், விமான சேவை, போக்குவரத்துக்கு சேவை நிறுவனங்கள், மருத்துவமனைகள் மற்றும் மற்ற மருத்துவ சேவை செய்வோர்கள், பொது சேவை நிறுவனங்களான குப்பை சேகரிப்பு, தூய்மை பணி மற்றும் சாலை, பூங்கா போன்றவற்றை பராமரித்தல், மின்சாரம், குடிநீர், தொலைபேசி, கடிதப்போக்குவரத்து மற்றும் தந்தி சேவை மற்றும் கல்வி நிலையங்கள் வாயிலாக பெறுகின்றனர்.

இச்சேவைகளின்போது அதிக விலை கூறும் பில்களை இடுதல் அதிகமான கட்டணம் பெறுதல், ஆனால் குறித்த நேரத்தில் சேவையை வழங்காது இருத்தல், குறிப்பிட்ட நேரத்திற்கு பதிலாக அந்த சேவை வழங்குவதற்கு அதிக நேரமெடுத்தல், செய்யும் சேவையை மிகைப்படுத்தி கூறுதல் மற்றும் நுகர்வோரை தன்வசப்படுத்துதல், தவறாக மிகைப்படுத்தி கூறுதல் போன்றவை நுகர்வோர்கள் பிரச்சனைகள் ஆகும்.

சொல்லப்பட்ட நேரத்திற்கும் சேவையை வழங்குவதற்குமான இடைவெளி ஒரு முக்கியமான நுகர்வோர் பிரச்சனையாகும். கையேடுகள், விளம்பரம் மற்றும் தனிப்பட்ட வியாபாரம் போன்றவைகளால் தரப்பட்ட நம்பிக்கையால் நுகர்வோரின் எதிர்பார்ப்புகள் பாதிக்கப்படுகின்றன. உதாரணமாக ஒரு தங்கும் விடுதியின் கையேடு அழகான அறைகளை காட்டுவதாகவும் விருந்தினர் அறைகள் சுமாராகவும் சாதாரணமாகவும் இருப்பதாகவும் உணர்கின்றனர். பல நேரங்களில் மக்கள் கையேடுகள், வலைத்தளம் அல்லது விளம்பரங்களை பார்த்து அறைகளை முன்பதிவு செய்கின்றனர். சில சமயங்களில் முன்பணமும் செலுத்திவிடுகின்றனர். ஆனால் அறையின்வசதிகள் நுகர்வோருக்கு திருப்தி அளிக்கவில்லை எனில் அங்கேயே தங்குவதை விட வேறு வழியில்லை. ஏனெனில் பல விடுதிகளின் முன்பணம் திரும்ப வழங்கப்படுவதில்லை.

பல தனியார் நிறுவனங்கள் படிப்பு முடிந்து வேலை உறுதி செய்வதாக கூறினாலும் அது நடப்பதில்லை எனில் அது கீழ்க்கண்ட எந்தவகை நுகர்வோர் பிரச்சனைக்கு உதாரணம்.

1. அதிகப்படியான கட்டணம்
2. கட்டணம் பெற்றும் சேவை வழங்கப்படாதது
3. பொய்யான உறுதிமொழிகளை தருதல்
4. வழங்கும் சேவையை மிகைப்படுத்தி கூறுதல்

Options :

- 485584146321. 1
- 485584146322. 2
- 485584146323. 3
- 485584146324. 4

Question Number : 197 Question Id : 48558436582 Question Type : MCQ Option Shuffling : No Is Question Mandatory : No Calculator : None Response Time : N.A Think Time : N.A Minimum Instruction Time : 0

Correct Marks : 5 Wrong Marks : 1

Question Key Details :

Key	Value
Comprehension	Comp2

Read the passage carefully. Attempt Question

Consumers not only purchase products but a whole gamut of services like those of banks, other financial institutions, airlines and travel agencies; hospitals and other medical practitioners; public utilities like garbage collection, cleanliness and maintenance of roads, parks, etc; electricity water telephone, post and telegraph; educational institutions and so on.

Consumers face a number of problems with regard to these services like excessive billing, being charged but not delivering the service, gap between promised level of service and service that is delivered, overstating the service attributes and enticing the consumer, making false claims and so on.

Gap between service delivery and external communication is a consumer issue. Consumer expectations are affected by promises made by the service provider in his external communication which may be through brochures, advertisements, personal selling etc. E.g. If a resort hotel brochure shows a beautiful room but the guests arrive and find the room to be cheap and very ordinary. Many a times people make advance bookings based on the brochures or seeing the website or some other advertisements. In such bookings sometimes advance also has to be paid. If the customer does not like the room ambience he may be left with little choice since refunds are not given by many hotels.

Which of the following is NOT an example of services offered to consumers ?

1. Consumer durables
2. Banking services
3. Airlines
4. Educational institutions

Options :

485584146325. 1

485584146326. 2

485584146327. 3

485584146328. 4

Question Number : 197 Question Id : 48558436582 Question Type : MCQ Option Shuffling : No Is Question Mandatory : No Calculator : None Response Time : N.A Think Time : N.A Minimum Instruction Time : 0

Correct Marks : 5 Wrong Marks : 1

Question Key Details :

Key	Value
Comprehension	Comp2

நுகர்வோர்கள் என்போர் பொருட்களை வாங்குபவர் மட்டும் அல்ல அதைத் தவிர பல்வேறு சேவைகளை வங்கி, மற்ற நிதி நிறுவனங்கள், விமான சேவை, போக்குவரத்துக்கு சேவை நிறுவனங்கள், மருத்துவமனைகள் மற்றும் மற்ற மருத்துவ சேவை செய்வோர்கள், பொது சேவை நிறுவனங்களான குப்பை சேகரிப்பு, தூய்மை பணி மற்றும் சாலை, பூங்கா போன்றவற்றை பராமரித்தல், மின்சாரம், குடிநீர், தொலைபேசி, கடிதப்போக்குவரத்து மற்றும் தந்தி சேவை மற்றும் கல்வி நிலையங்கள் வாயிலாக பெறுகின்றனர்.

இச்சேவைகளின்போது அதிக விலை கூறும் பில்களை இடுதல் அதிகமான கட்டணம் பெறுதல், ஆனால் குறித்த நேரத்தில் சேவையை வழங்காது இருத்தல், குறிப்பிட்ட நேரத்திற்கு பதிலாக அந்த சேவை வழங்குவதற்கு அதிக நேரமெடுத்தல், செய்யும் சேவையை மிகைப்படுத்தி கூறுதல் மற்றும் நுகர்வோரை தன்வசப்படுத்துதல், தவறாக மிகைப்படுத்தி கூறுதல் போன்றவை நுகர்வோர்கள் பிரச்சனைகள் ஆகும்.

சொல்லப்பட்ட நேரத்திற்கும் சேவையை வழங்குவதற்குமான இடைவெளி ஒரு முக்கியமான நுகர்வோர் பிரச்சனையாகும். கையேடுகள், விளம்பரம் மற்றும் தனிப்பட்ட வியாபாரம் போன்றவைகளால் தரப்பட்ட நம்பிக்கையால் நுகர்வோரின் எதிர்பார்ப்புகள் பாதிக்கப்படுகின்றன. உதாரணமாக ஒரு தங்கும் விடுதியின் கையேடு அழகான அறைகளை காட்டுவதாகவும் விருந்தினர் அறைகள் சுமாராகவும் சாதாரணமாகவும் இருப்பதாகவும் உணர்கின்றனர். பல நேரங்களில் மக்கள் கையேடுகள், வலைத்தளம் அல்லது விளம்பரங்களை பார்த்து அறைகளை முன்பதிவு செய்கின்றனர். சில சமயங்களில் முன்பணமும் செலுத்திவிடுகின்றனர். ஆனால் அறையின்வசதிகள் நுகர்வோருக்கு திருப்தி அளிக்கவில்லை எனில் அங்கேயே தங்குவதை விட வேறு வழியில்லை. ஏனெனில் பல விடுதிகளின் முன்பணம் திரும்ப வழங்கப்படுவதில்லை.

கீழ்க்கண்ட எந்த ஒன்று நுகர்வோர் சேவையில் வராது?

1. நுகர்வு பண்டங்கள்
2. வங்கி சேவை
3. ஏர்லைன்ஸ்
4. கல்வி நிலையங்கள்

Options :

485584146325. 1
485584146326. 2
485584146327. 3
485584146328. 4

Question Number : 198 Question Id : 48558436583 Question Type : MCQ Option Shuffling : No Is Question Mandatory : No Calculator : None Response Time : N.A Think Time : N.A Minimum Instruction Time : 0

Correct Marks : 5 Wrong Marks : 1

Question Key Details :

Key	Value
Comprehension	Comp2

Read the passage carefully. Attempt Question

Consumers not only purchase products but a whole gamut of services like those of banks, other financial institutions, airlines and travel agencies; hospitals and other medical practitioners; public utilities like garbage collection, cleanliness and maintenance of roads, parks, etc; electricity water telephone, post and telegraph; educational institutions and so on.

Consumers face a number of problems with regard to these services like excessive billing, being charged but not delivering the service, gap between promised level of service and service that is delivered, overstating the service attributes and enticing the consumer, making false claims and so on.

Gap between service delivery and external communication is a consumer issue. Consumer expectations are affected by promises made by the service provider in his external communication which may be through brochures, advertisements, personal selling etc. E.g. If a resort hotel brochure shows a beautiful room but the guests arrive and find the room to be cheap and very ordinary. Many a times people make advance bookings based on the brochures or seeing the website or some other advertisements. In such bookings sometimes advance also has to be paid. If the customer does not like the room ambience he may be left with little choice since refunds are not given by many hotels.

Many a times, we are required to pay a basic telephone rental charge irrespective of it being out of order. Which service related to consumer problem is depicted in this example?

1. Excessive billing
2. Being charged but not delivering the service
3. Making false claims
4. Overstating the service attributes

Options :

- 485584146329. 1
- 485584146330. 2
- 485584146331. 3
- 485584146332. 4

Question Number : 198 Question Id : 48558436583 Question Type : MCQ Option Shuffling : No Is Question Mandatory : No Calculator : None Response Time : N.A Think Time : N.A Minimum Instruction Time : 0

Correct Marks : 5 Wrong Marks : 1

Question Key Details :

Key	Value
Comprehension	Comp2

நுகர்வோர்கள் என்போர் பொருட்களை வாங்குபவர் மட்டும் அல்ல அதைத் தவிர பல்வேறு சேவைகளை வங்கி, மற்ற நிதி நிறுவனங்கள், விமான சேவை, போக்குவரத்துக்கு சேவை நிறுவனங்கள், மருத்துவமனைகள் மற்றும் மற்ற மருத்துவ சேவை செய்வோர்கள், பொது சேவை நிறுவனங்களான குப்பை சேகரிப்பு, தூய்மை பணி மற்றும் சாலை, பூங்கா போன்றவற்றை பராமரித்தல், மின்சாரம், குடிநீர், தொலைபேசி, கடிதப்போக்குவரத்து மற்றும் தந்தி சேவை மற்றும் கல்வி நிலையங்கள் வாயிலாக பெறுகின்றனர்.

இச்சேவைகளின்போது அதிக விலை கூறும் பில்களை இடுதல் அதிகமான கட்டணம் பெறுதல், ஆனால் குறித்த நேரத்தில் சேவையை வழங்காது இருத்தல், குறிப்பிட்ட நேரத்திற்கு பதிலாக அந்த சேவை வழங்குவதற்கு அதிக நேரமெடுத்தல், செய்யும் சேவையை மிகைப்படுத்தி கூறுதல் மற்றும் நுகர்வோரை தன்வசப்படுத்துதல், தவறாக மிகைப்படுத்தி கூறுதல் போன்றவை நுகர்வோர்கள் பிரச்சனைகள் ஆகும்.

சொல்லப்பட்ட நேரத்திற்கும் சேவையை வழங்குவதற்குமான இடைவெளி ஒரு முக்கியமான நுகர்வோர் பிரச்சனையாகும். கையேடுகள், விளம்பரம் மற்றும் தனிப்பட்ட வியாபாரம் போன்றவைகளால் தரப்பட்ட நம்பிக்கையால் நுகர்வோரின் எதிர்பார்ப்புகள் பாதிக்கப்படுகின்றன. உதாரணமாக ஒரு தங்கும் விடுதியின் கையேடு அழகான அறைகளை காட்டுவதாகவும் விருந்தினர் அறைகள் சுமாராகவும் சாதாரணமாகவும் இருப்பதாகவும் உணர்கின்றனர். பல நேரங்களில் மக்கள் கையேடுகள், வலைத்தளம் அல்லது விளம்பரங்களை பார்த்து அறைகளை முன்பதிவு செய்கின்றனர். சில சமயங்களில் முன்பணமும் செலுத்திவிடுகின்றனர். ஆனால் அறையின்வசதிகள் நுகர்வோருக்கு திருப்தி அளிக்கவில்லை எனில் அங்கேயே தங்குவதை விட வேறு வழியில்லை. ஏனெனில் பல விடுதிகளின் முன்பணம் திரும்ப வழங்கப்படுவதில்லை.

பல சமயங்களில் தொலைபேசி வேலை செய்யாதபோதும் நாம் குறிப்பிட்ட அளவு வாடகைக் கட்டணம் செலுத்த வேண்டியுள்ளது. இச்சேவை கீழ்க்கண்ட எந்த நுகர்வோர் பிரச்சனைக்கு உதாரணம்:

1. அதிக கட்டணம்
2. கட்டணம் பெற்றும் சேவை வழங்காதது
3. பொய்யான உறுதிமொழி வழங்குதல்
4. வழங்கும் சேவையை மிகைப்படுத்தி கூறுதல்

Options :

485584146329. 1
485584146330. 2
485584146331. 3
485584146332. 4

Question Number : 199 Question Id : 48558436584 Question Type : MCQ Option Shuffling : No Is Question Mandatory : No Calculator : None Response Time : N.A Think Time : N.A Minimum Instruction Time : 0

Correct Marks : 5 Wrong Marks : 1

Question Key Details :

Key	Value
Comprehension	Comp2

Read the passage carefully. Attempt Question

Consumers not only purchase products but a whole gamut of services like those of banks, other financial institutions, airlines and travel agencies; hospitals and other medical practitioners; public utilities like garbage collection, cleanliness and maintenance of roads, parks, etc; electricity water telephone, post and telegraph; educational institutions and so on.

Consumers face a number of problems with regard to these services like excessive billing, being charged but not delivering the service, gap between promised level of service and service that is delivered, overstating the service attributes and enticing the consumer, making false claims and so on.

Gap between service delivery and external communication is a consumer issue. Consumer expectations are affected by promises made by the service provider in his external communication which may be through brochures, advertisements, personal selling etc. E.g. If a resort hotel brochure shows a beautiful room but the guests arrive and find the room to be cheap and very ordinary. Many a times people make advance bookings based on the brochures or seeing the website or some other advertisements. In such bookings sometimes advance also has to be paid. If the customer does not like the room ambience he may be left with little choice since refunds are not given by many hotels.

Which of the following is NOT an example of aid used by service providers for external communication ?

1. Brochures
2. Board meeting
3. Advertisements
4. Personal selling

Options :

485584146333. 1

485584146334. 2

485584146335. 3

485584146336. 4

Question Number : 199 Question Id : 48558436584 Question Type : MCQ Option Shuffling : No Is Question Mandatory : No Calculator : None Response Time : N.A Think Time : N.A Minimum Instruction Time : 0

Correct Marks : 5 Wrong Marks : 1

Question Key Details :

Key	Value
Comprehension	Comp2

நுகர்வோர்கள் என்போர் பொருட்களை வாங்குபவர் மட்டும் அல்ல அதைத் தவிர பல்வேறு சேவைகளை வங்கி, மற்ற நிதி நிறுவனங்கள், விமான சேவை, போக்குவரத்துக்கு சேவை நிறுவனங்கள், மருத்துவமனைகள் மற்றும் மற்ற மருத்துவ சேவை செய்வோர்கள், பொது சேவை நிறுவனங்களான குப்பை சேகரிப்பு, தூய்மை பணி மற்றும் சாலை, பூங்கா போன்றவற்றை பராமரித்தல், மின்சாரம், குடிநீர், தொலைபேசி, கடிதப்போக்குவரத்து மற்றும் தந்தி சேவை மற்றும் கல்வி நிலையங்கள் வாயிலாக பெறுகின்றனர்.

இச்சேவைகளின்போது அதிக விலை கூறும் பில்களை இடுதல் அதிகமான கூட்டணம் பெறுதல், ஆனால் குறித்த நேரத்தில் சேவையை வழங்காது இருத்தல், குறிப்பிட்ட நேரத்திற்கு பதிலாக அந்த சேவை வழங்குவதற்கு அதிக நேரமெடுத்தல், செய்யும் சேவையை மிகைப்படுத்தி கூறுதல் மற்றும் நுகர்வோரை தன்வசப்படுத்துதல், தவறாக மிகைப்படுத்தி கூறுதல் போன்றவை நுகர்வோர்கள் பிரச்சனைகள் ஆகும்.

சொல்லப்பட்ட நேரத்திற்கும் சேவையை வழங்குவதற்குமான இடைவெளி ஒரு முக்கியமான நுகர்வோர் பிரச்சனையாகும். கையேடுகள், விளம்பரம் மற்றும் தனிப்பட்ட வியாபாரம் போன்றவைகளால் தரப்பட்ட நம்பிக்கையால் நுகர்வோரின் எதிர்பார்ப்புகள் பாதிக்கப்படுகின்றன. உதாரணமாக ஒரு தங்கும் விடுதியின் கையேடு அழகான அறைகளை காட்டுவதாகவும் விருந்தினர் அறைகள் சுமாராகவும் சாதாரணமாகவும் இருப்பதாகவும் உணர்கின்றனர். பல நேரங்களில் மக்கள் கையேடுகள், வலைத்தளம் அல்லது விளம்பரங்களை பார்த்து அறைகளை முன்பதிவு செய்கின்றனர். சில சமயங்களில் முன்பணமும் செலுத்திவிடுகின்றனர். ஆனால் அறையின்வசதிகள் நுகர்வோருக்கு திருப்தி அளிக்கவில்லை எனில் அங்கேயே தங்குவதை விட வேறு வழியில்லை. ஏனெனில் பல விடுதிகளின் முன்பணம் திரும்ப வழங்கப்படுவதில்லை.

கீழ்கண்ட எவை வெளியுலகத் தொடர்புக்கு பயன்படுத்தும் சாதனம் அன்று?

- A. இயக்குனர் குழு கூட்டம்
- B. கையேடுகள்
- C. விளம்பரங்கள்
- D. நேரடி விற்பனை
- E. விலைகுறைப்பு

கீழே தரப்பட்டுள்ள வாய்ப்புகளில் இருந்து சரியான விடையைத் தேர்ந்தெடுக்கவும்:

- 1. A, C மற்றும் D மட்டும்
- 2. B, C மற்றும் D மட்டும்
- 3. B, D மற்றும் E மட்டும்
- 4. A, B மற்றும் C மட்டும்

Options :

485584146333. 1

485584146334. 2

485584146335. 3

485584146336. 4

Question Number : 200 Question Id : 48558436585 Question Type : MCQ Option Shuffling : No Is Question Mandatory : No Calculator : None Response Time : N.A Think Time : N.A Minimum Instruction Time : 0

Correct Marks : 5 Wrong Marks : 1

Question Key Details :

Key	Value
Comprehension	Comp2

Read the passage carefully. Attempt Question

Consumers not only purchase products but a whole gamut of services like those of banks, other financial institutions, airlines and travel agencies; hospitals and other medical practitioners; public utilities like garbage collection, cleanliness and maintenance of roads, parks, etc; electricity water telephone, post and telegraph; educational institutions and so on.

Consumers face a number of problems with regard to these services like excessive billing, being charged but not delivering the service, gap between promised level of service and service that is delivered, overstating the service attributes and enticing the consumer, making false claims and so on.

Gap between service delivery and external communication is a consumer issue. Consumer expectations are affected by promises made by the service provider in his external communication which may be through brochures, advertisements, personal selling etc. E.g. If a resort hotel brochure shows a beautiful room but the guests arrive and find the room to be cheap and very ordinary. Many a times people make advance bookings based on the brochures or seeing the website or some other advertisements. In such bookings sometimes advance also has to be paid. If the customer does not like the room ambience he may be left with little choice since refunds are not given by many hotels.

A family had gone on vacation for a month but received electricity bill for the same month running in several thousands. Which service related consumer problems is depicted in this case?

1. Excessive billing
2. Being charged but not delivering the service
3. Making false claims
4. Overstating the service attributes

Options :

485584146337. 1

485584146338. 2

485584146339. 3

485584146340. 4

Question Number : 200 Question Id : 48558436585 Question Type : MCQ Option Shuffling : No Is Question Mandatory : No Calculator : None Response Time : N.A Think Time : N.A Minimum Instruction Time : 0

Correct Marks : 5 Wrong Marks : 1

Question Key Details :

Key	Value
Comprehension	Comp2

நுகர்வோர்கள் என்போர் பொருட்களை வாங்குபவர் மட்டும் அல்ல அதைத் தவிர பல்வேறு சேவைகளை வங்கி, மற்ற நிதி நிறுவனங்கள், விமான சேவை, போக்குவரத்துக்கு சேவை நிறுவனங்கள், மருத்துவமனைகள் மற்றும் மற்ற மருத்துவ சேவை செய்வோர்கள், பொது சேவை நிறுவனங்களான குப்பை சேகரிப்பு, தூய்மை பணி மற்றும் சாலை, பூங்கா போன்றவற்றை பராமரித்தல், மின்சாரம், குடிநீர், தொலைபேசி, கடிதப்போக்குவரத்து மற்றும் தந்தி சேவை மற்றும் கல்வி நிலையங்கள் வாயிலாக பெறுகின்றனர்.

இச்சேவைகளின்போது அதிக விலை கூறும் பில்களை இடுதல் அதிகமான கட்டணம் பெறுதல், ஆனால் குறித்த நேரத்தில் சேவையை வழங்காது இருத்தல், குறிப்பிட்ட நேரத்திற்கு பதிலாக அந்த சேவை வழங்குவதற்கு அதிக நேரமெடுத்தல், செய்யும் சேவையை மிகைப்படுத்தி கூறுதல் மற்றும் நுகர்வோரை தன்வசப்படுத்துதல், தவறாக மிகைப்படுத்தி கூறுதல் போன்றவை நுகர்வோர்கள் பிரச்சனைகள் ஆகும்.

சொல்லப்பட்ட நேரத்திற்கும் சேவையை வழங்குவதற்குமான இடைவெளி ஒரு முக்கியமான நுகர்வோர் பிரச்சனையாகும். கையேடுகள், விளம்பரம் மற்றும் தனிப்பட்ட வியாபாரம் போன்றவைகளால் தரப்பட்ட நம்பிக்கையால் நுகர்வோரின் எதிர்பார்ப்புகள் பாதிக்கப்படுகின்றன. உதாரணமாக ஒரு தங்கும் விடுதியின் கையேடு அழகான அறைகளை காட்டுவதாகவும் விருந்தினர் அறைகள் சுமாராகவும் சாதாரணமாகவும் இருப்பதாகவும் உணர்கின்றனர். பல நேரங்களில் மக்கள் கையேடுகள், வலைத்தளம் அல்லது விளம்பரங்களை பார்த்து அறைகளை முன்பதிவு செய்கின்றனர். சில சமயங்களில் முன்பணமும் செலுத்திவிடுகின்றனர். ஆனால் அறையின்வசதிகள் நுகர்வோருக்கு திருப்தி அளிக்கவில்லை எனில் அங்கேயே தங்குவதை விட வேறு வழியில்லை. ஏனெனில் பல விடுதிகளின் முன்பணம் திரும்ப வழங்கப்படுவதில்லை.

ஒரு குடும்பம் ஒரு மாதத்திற்கு சுற்றுலா சென்றிருந்தது. ஆனால் பல ஆயிரங்களுக்கு மின்கட்டணம் கட்ட வேண்டியதாக கேட்கப்பட்டது. எனில் இந்த சேவை நுகர்வோருக்கு தரும் பிரச்சனை யாது?

1. அதிக கட்டணம்
2. கட்டணம் பெற்றும் சேவை வழங்காது இருத்தல்
3. பொய் வாக்குறுதிகள் தருதல்
4. வழங்கும் சேவையை மிகைப்படுத்தி கூறுதல்

Options :

485584146337. 1
 485584146338. 2
 485584146339. 3
 485584146340. 4

Group Number : 6
Group Id : 485584826
Group Maximum Duration : 45
Group Minimum Duration : 45
Show Attended Group? : No
Edit Attended Group? : No
Break time : 0
Group Marks : 200
Is this Group for Examiner? : No
Examiner permission : Cant View
Show Progress Bar? : No

Teaching Aptitude

Section Id : 485584950
Section Number : 1
Section type : Online
Mandatory or Optional : Mandatory
Number of Questions : 50
Number of Questions to be attempted : 40
Section Marks : 200
Enable Mark as Answered Mark for Review and Clear Response : Yes
Maximum Instruction Time : 0
Sub-Section Number : 1
Sub-Section Id : 4855842702
Question Shuffling Allowed : Yes
Is Section Default? : null

Question Number : 201 Question Id : 48558436586 Question Type : MCQ Option Shuffling : No Is Question Mandatory : No Calculator : None Response Time : N.A Think Time : N.A Minimum Instruction Time : 0

Correct Marks : 5 Wrong Marks : 1

Question Key Details :

Key	Value
Comprehension	MCQ

Match List I with List II

LIST I Dance		LIST II Artists	
A.	Bharatnatyam	I.	Savita Mehta
B.	Odissi	II.	Sitara Devi
C.	Kathak	III.	Yamini Krishnamurthy
D.	Mampuri	IV.	Sanjukta Panigrahi

Choose the correct answer from the options given below:

1. A-III, B-IV, C-II, D-I
2. A-III, B-II, C-IV, D-I
3. A-II, B-IV, C-III, D-I
4. A-II, B-I, C-IV, D-III

Options :

485584146341. 1
485584146342. 2
485584146343. 3
485584146344. 4

Question Number : 201 Question Id : 48558436586 Question Type : MCQ Option Shuffling : No Is Question Mandatory : No Calculator : None Response Time : N.A Think Time : N.A Minimum Instruction Time : 0

Correct Marks : 5 Wrong Marks : 1

Question Key Details :

Key	Value
Comprehension	MCQ

பட்டியல் I ஐ பட்டியல் II உடன் பொருத்துக

பட்டியல் I நடனங்கள்		பட்டியல் II கலைஞர்கள்	
A.	பரதநாட்டியம்	I.	சவிதா மேத்தா
B.	ஒடிசி	II.	சித்தாரா தேவி
C.	கதக்	III.	யாமினி கிருஷ்ணமூர்த்தி
D.	மணிப்புரி	IV.	சஞ்ஜலக்தா பணிக்ராசி

கீழே தரப்பட்டுள்ள வாய்ப்புகளில் இருந்து சரியான விடையைத் தேர்ந்தெடுக்கவும்:

1. A-III, B-IV, C-II, D-I
2. A-III, B-II, C-IV, D-I
3. A-II, B-IV, C-III, D-I
4. A-II, B-I, C-IV, D-III

Options :

485584146341. 1

485584146342. 2
485584146343. 3
485584146344. 4

Question Number : 202 Question Id : 48558436587 Question Type : MCQ Option Shuffling : No Is Question Mandatory : No Calculator : None Response Time : N.A Think Time : N.A Minimum Instruction Time : 0

Correct Marks : 5 Wrong Marks : 1

Question Key Details :

Key	Value
Comprehension	MCQ

DD Gyan Darshan is an educational media initiative of Ministry of Education in collaboration with-

- A. Ministry of Information and Broadcasting
- B. Prasar Bharti
- C. ISRO
- D. IGNOU
- E. Ministry of Information and Communication Technology

Choose the correct answer from the options given below:

- 1. A, B and C only
- 2. A, C and D only
- 3. A, B, C and D only
- 4. B, C and E only

Options :

485584146345. 1
485584146346. 2
485584146347. 3
485584146348. 4

Question Number : 202 Question Id : 48558436587 Question Type : MCQ Option Shuffling : No Is Question Mandatory : No Calculator : None Response Time : N.A Think Time : N.A Minimum Instruction Time : 0

Correct Marks : 5 Wrong Marks : 1

Question Key Details :

Key	Value
Comprehension	MCQ

டி.டி கியான் தர்ஷன் என்பது கல்வி அமைச்சரகத்தினுடைய கல்வி ஊடக முயற்சி. கீழ்க்காணும் துறைகளில் இதை யாருடன்/எந்த துறையுடன் செய்கிறார்கள்?

- A. தகவல் தொடர்பு மற்றும் ஒளிபரப்பு அமைச்சகம்
- B. பிரசார் பாரதி
- C. ISRO
- D. IGNOU
- E. தகவல் தொடர்பு மற்றும் தொலை தொடர்பு அமைச்சகம்

கீழே தரப்பட்டுள்ள வாய்ப்புகளில் இருந்து சரியான விடையைத் தேர்ந்தெடுக்கவும்:

1. A, B மற்றும் C மட்டும்
2. A, C மற்றும் D மட்டும்
3. A, B, C மற்றும் D மட்டும்
4. B, C மற்றும் E மட்டும்

Options :

- 485584146345. 1
- 485584146346. 2
- 485584146347. 3
- 485584146348. 4

Question Number : 203 Question Id : 48558436588 Question Type : MCQ Option Shuffling : No Is Question Mandatory : No Calculator : None Response Time : N.A Think Time : N.A Minimum Instruction Time : 0

Correct Marks : 5 Wrong Marks : 1

Question Key Details :

Key	Value
Comprehension	MCQ

Match List I with List II

LIST I		LIST II	
A.	Thappad	I.	Women's bodies and commercial gains
B.	Mimi	II.	Quality education for all
C.	Black	III.	Domestic violence and dignity
D.	Hichki	IV.	Right to a dignified life and knowledge

Choose the correct answer from the options given below:

1. A-III, B-I, C-IV, D-II
2. A-I, B-III, C-IV, D-II
3. A-III, B-I, C-II, D-IV
4. A-III, B-II, C-IV, D-I

Options :

- 485584146349. 1

485584146350. 2

485584146351. 3

485584146352. 4

Question Number : 203 Question Id : 48558436588 Question Type : MCQ Option Shuffling : No Is Question Mandatory : No Calculator : None Response Time : N.A Think Time : N.A Minimum Instruction Time : 0

Correct Marks : 5 Wrong Marks : 1

Question Key Details :

Key	Value
Comprehension	MCQ

பட்டியல் I ஐ பட்டியல் II உடன் பொருத்துக

பட்டியல் I		பட்டியல் II	
A.	தப்பட்	I.	பெண்களின் இயக்கம் மற்றும் பொருளாதார அணுகுலம்
B.	யிமி	II.	அனைவருக்கும் தரமான கல்வி
C.	பிளாக்	III.	வீட்டில் நடக்கும் வன்முறை மற்றும் கௌரவம்
D.	ஹரிச்சி	IV.	கௌரவமான மற்றும் அறிவார்ந்த வாழ்க்கை வாழ உரிமை

கீழே தரப்பட்டுள்ள வாய்ப்புகளில் இருந்து சரியான விடையைத் தேர்ந்தெடுக்கவும்:

1. A-III, B-I, C-IV, D-II

2. A-I, B-III, C-IV, D-II

3. A-III, B-I, C-II, D-IV

4. A-III, B-II, C-IV, D-I

Options :

485584146349. 1

485584146350. 2

485584146351. 3

485584146352. 4

Question Number : 204 Question Id : 48558436589 Question Type : MCQ Option Shuffling : No Is Question Mandatory : No Calculator : None Response Time : N.A Think Time : N.A Minimum Instruction Time : 0

Correct Marks : 5 Wrong Marks : 1

Question Key Details :

Key	Value
Comprehension	MCQ

In the story 'Idgah' the protagonist Hamid buys a _____ for _____ from the fair.

1. pair of tongs, his grandmother
2. pair of tongs, his mother
3. clay doll, himself
4. clay doll, his grandmother

Options :

485584146353. 1
485584146354. 2
485584146355. 3
485584146356. 4

Question Number : 204 Question Id : 48558436589 Question Type : MCQ Option Shuffling : No Is Question Mandatory : No Calculator : None Response Time : N.A Think Time : N.A Minimum Instruction Time : 0

Correct Marks : 5 Wrong Marks : 1

Question Key Details :

Key	Value
Comprehension	MCQ

'இக்கா' என்ற கதையில் வரும் முக்கிய கதாப்பாத்திரம் ஹமித் _____ க்காக சந்தையில் இருந்து _____ ஐ வாங்குகிறார். கீழ்க்கண்டவற்றுள் அவையாவை என்று கண்டறிக.

1. இடுக்கிகளை, அவருடைய பாட்டிக்காக
2. இடுக்கிகளை, அவருடைய அம்மாவிற்காக
3. களிமண் பொம்மை, அவருக்காக
4. களிமண் பொம்மை, அவருடைய பாட்டிக்காக

Options :

485584146353. 1
485584146354. 2
485584146355. 3
485584146356. 4

Question Number : 205 Question Id : 48558436590 Question Type : MCQ Option Shuffling : No Is Question Mandatory : No Calculator : None Response Time : N.A Think Time : N.A Minimum Instruction Time : 0

Correct Marks : 5 Wrong Marks : 1

Question Key Details :

Key	Value
Comprehension	MCQ

Who is the first female Indian scientist to receive a PhD degree in a scientific discipline?

1. Kamala Sohonie
2. Janaki Ammal
3. Anandibai Gopalrao Joshi
4. Asima Chatterjee

Options :

485584146357. 1
485584146358. 2
485584146359. 3
485584146360. 4

Question Number : 205 Question Id : 48558436590 Question Type : MCQ Option Shuffling : No Is Question Mandatory : No Calculator : None Response Time : N.A Think Time : N.A Minimum Instruction Time : 0

Correct Marks : 5 Wrong Marks : 1

Question Key Details :

Key	Value
Comprehension	MCQ

அறிவியல் துறையில் முனைவர் பட்டம் பெற்ற முதல் பெண் இந்திய அறிவியல் அறிஞர்/விஞ்ஞானி யார்?

1. கமலா சோஹினி
2. ஜானகி அம்மாள்
3. ஆனந்திபாய் கோபால்ராவ் ஜோஷி
4. அசிமா சாட்டர்ஜி

Options :

485584146357. 1
485584146358. 2
485584146359. 3
485584146360. 4

Question Number : 206 Question Id : 48558436591 Question Type : MCQ Option Shuffling : No Is Question Mandatory : No Calculator : None Response Time : N.A Think Time : N.A Minimum Instruction Time : 0

Correct Marks : 5 Wrong Marks : 1

Question Key Details :

Key	Value
Comprehension	MCQ

In the film, 'Chak De India', which of the following themes was not addressed?

1. National integration
2. Child labour
3. Women Empowerment
4. Religious Harmony

Options :

485584146361. 1
485584146362. 2
485584146363. 3
485584146364. 4

Question Number : 206 Question Id : 48558436591 Question Type : MCQ Option Shuffling : No Is Question Mandatory : No Calculator : None Response Time : N.A Think Time : N.A Minimum Instruction Time : 0

Correct Marks : 5 Wrong Marks : 1

Question Key Details :

Key	Value
Comprehension	MCQ

கீழ்க்கண்டவற்றுள் உள்ள எந்த கரு/கொள்கை 'சக் தே இந்தியா' என்ற திரைப்படத்தில் இடம்பெறாது?

1. தேசிய ஒருமைப்பாடு
2. குழந்தை தொழிலாளர்
3. பெண்கள் முன்னேற்றம்
4. மத நல்லிணக்கம்

Options :

485584146361. 1
485584146362. 2
485584146363. 3
485584146364. 4

Question Number : 207 Question Id : 48558436592 Question Type : MCQ Option Shuffling : No Is Question Mandatory : No Calculator : None Response Time : N.A Think Time : N.A Minimum Instruction Time : 0

Correct Marks : 5 Wrong Marks : 1

Question Key Details :

Key	Value
Comprehension	MCQ

The stories by Premchand primarily deal with:

- A. Challenges faced by children
- B. issues related to women
- C. struggles of the professional class
- D. struggles of the rural poor
- E. the character of villages in medieval India

Choose the most appropriate answer from the options given below:

- 1. B, C and E only
- 2. D, A and E only
- 3. C, D and A only
- 4. A, B and D only

Options :

- 485584146365. 1
- 485584146366. 2
- 485584146367. 3
- 485584146368. 4

Question Number : 207 Question Id : 48558436592 Question Type : MCQ Option Shuffling : No Is Question Mandatory : No Calculator : None Response Time : N.A Think Time : N.A Minimum Instruction Time : 0

Correct Marks : 5 Wrong Marks : 1

Question Key Details :

Key	Value
Comprehension	MCQ

பிரேம்சந்த் என்பவரின் கதைகள் எதைப் பற்றியது:

- A. குழந்தைகள் எதிர்நோக்கும் சவால்களை
- B. பெண்கள் சம்பந்தப்பட்ட பிரச்சனைகள்
- C. மேற்படி/உயர்ந்த சமூகத்தினரின் பிரச்சனைகளைப் பற்றி
- D. ஊரக மக்களின் போராட்டங்களைப் பற்றி
- E. மத்திய இந்தியாவில் இருக்கும் கிராமங்களைப் பற்றி

கீழே தரப்பட்டுள்ள வாய்ப்புகளில் இருந்து சரியான விடையைத் தேர்ந்தெடுக்கவும்:

- 1. B, C மற்றும் E மட்டும்
- 2. D, A மற்றும் E மட்டும்
- 3. C, D மற்றும் A மட்டும்
- 4. A, B மற்றும் D மட்டும்

Options :

- 485584146365. 1
- 485584146366. 2

485584146367. 3

485584146368. 4

Question Number : 208 Question Id : 48558436593 Question Type : MCQ Option Shuffling : No Is Question Mandatory : No Calculator : None Response Time : N.A Think Time : N.A Minimum Instruction Time : 0

Correct Marks : 5 Wrong Marks : 1

Question Key Details :

Key	Value
Comprehension	MCQ

The central theme of the Hindi film, 'Dangal' is:

1. Urban-rural social divide in the state of Haryana
2. Women in a male- dominated sport
3. Relationship between siblings
4. Mother - daughter relationship

Options :

485584146369. 1

485584146370. 2

485584146371. 3

485584146372. 4

Question Number : 208 Question Id : 48558436593 Question Type : MCQ Option Shuffling : No Is Question Mandatory : No Calculator : None Response Time : N.A Think Time : N.A Minimum Instruction Time : 0

Correct Marks : 5 Wrong Marks : 1

Question Key Details :

Key	Value
Comprehension	MCQ

'தங்கல்' என்ற இந்தி திரைப்படத்தின் மையக் கருத்து என்ன?

1. ஹரியானாவில் உள்ள ஊரக, சமூக பிரிவினைகளைப் பற்றியது
2. ஆண் ஆதிக்க விளையாட்டில் பெண் பங்கு பெறுவது
3. சகோதர, சகோதரிகளுக்கிடையே உள்ள உறவு
4. தாய்-மகளுக்கிடையே உள்ள உறவு

Options :

485584146369. 1

485584146370. 2

485584146371. 3

485584146372. 4

Question Number : 209 Question Id : 48558436594 Question Type : MCQ Option Shuffling : No Is Question Mandatory : No Calculator : None Response Time : N.A Think Time : N.A Minimum Instruction Time : 0

Correct Marks : 5 Wrong Marks : 1

Question Key Details :

Key	Value
Comprehension	MCQ

Tagore's alternate school 'Shantiniketan' did **NOT** promote:

1. Open classrooms
2. Simplicity of the learning process
3. Teaching in the mother tongue
4. Discipline in children

Options :

485584146373. 1
485584146374. 2
485584146375. 3
485584146376. 4

Question Number : 209 Question Id : 48558436594 Question Type : MCQ Option Shuffling : No Is Question Mandatory : No Calculator : None Response Time : N.A Think Time : N.A Minimum Instruction Time : 0

Correct Marks : 5 Wrong Marks : 1

Question Key Details :

Key	Value
Comprehension	MCQ

தாசூரின் மாற்றுவழி பள்ளி 'சாந்திநிகேதன்' எனத் தக்கமளிக்கவில்லை?

1. திறந்தவெளி பள்ளியறைகள்
2. சுற்றும் குறையை எளிதாக்கியது
3. அவரவருடைய தாய்மொழியில் கற்பது/கற்பிப்பது
4. குழந்தைகளின் ஒழுக்கம்

Options :

485584146373. 1
485584146374. 2
485584146375. 3
485584146376. 4

Question Number : 210 Question Id : 48558436595 Question Type : MCQ Option Shuffling : No Is Question Mandatory : No Calculator : None Response Time : N.A Think Time : N.A Minimum Instruction Time : 0

Correct Marks : 5 Wrong Marks : 1

Question Key Details :

Key	Value
Comprehension	MCQ

Which of the following is not a Children's novel?

1. Ahimsa
2. Charlie and the Chocolate Factory
3. A Thousand Splendid Suns
4. Wonder

Options :

485584146377. 1
485584146378. 2
485584146379. 3
485584146380. 4

Question Number : 210 Question Id : 48558436595 Question Type : MCQ Option Shuffling : No Is Question Mandatory : No Calculator : None Response Time : N.A Think Time : N.A Minimum Instruction Time : 0

Correct Marks : 5 Wrong Marks : 1

Question Key Details :

Key	Value
Comprehension	MCQ

கீழ்க்கண்டவற்றுள் எது குழந்தைகள் புதினத்தில் அடங்காது?

1. அகிம்சை
2. சார்லி அண்ட் தி சாக்லேட் பாக்டரி
3. ஏ தெளசன்ட் ஸ்பெளன்டிட் சன்ஸ்
4. வெண்டர்

Options :

485584146377. 1
485584146378. 2
485584146379. 3
485584146380. 4

Question Number : 211 Question Id : 48558436596 Question Type : MCQ Option Shuffling : No Is Question Mandatory : No Calculator : None Response Time : N.A Think Time : N.A Minimum Instruction Time : 0

Correct Marks : 5 Wrong Marks : 1

Question Key Details :

Key	Value
Comprehension	MCQ

Which among the following are 'Pros' of 5G Technology?

- A. Greater Transmission Speed
- B. Overcrowded Radio frequency
- C. Increased connectivity
- D. Wider Coverage
- E. High Energy consumption

Choose the correct answer from the options given below:

1. B, C and E only
2. A, C and D only
3. B, C and D only
4. A, C and E only

Options :

- 485584146381. 1
- 485584146382. 2
- 485584146383. 3
- 485584146384. 4

Question Number : 211 Question Id : 48558436596 Question Type : MCQ Option Shuffling : No Is Question Mandatory : No Calculator : None Response Time : N.A Think Time : N.A Minimum Instruction Time : 0

Correct Marks : 5 Wrong Marks : 1

Question Key Details :

Key	Value
Comprehension	MCQ

5G அலைக்கற்றையின் நன்மைகள் என்ன என்பதை கீழ்க்கண்டவற்றுள் குறிப்பிடுக.

- A. மிக அதிகவேக ஒளிப்பரப்புதல்
- B. வானொலி அலைக்கற்றைகளின் நெடுக்கம்
- C. தொடர்பை அதிகப்படுத்துதல்
- D. அகன்ற ஒளிபரப்பு ஆற்றல்
- E. அதிக ஆற்றல் உட்கொணர்வு

கீழே தரப்பட்டுள்ள வாய்ப்புகளில் இருந்து சரியான விடையைத் தேர்ந்தெடுக்கவும்:

1. B, C மற்றும் E மட்டும்
2. A, C மற்றும் D மட்டும்
3. B, C மற்றும் D மட்டும்
4. A, C மற்றும் E மட்டும்

Options :

- 485584146381. 1
- 485584146382. 2

485584146383. 3

485584146384. 4

Question Number : 212 Question Id : 48558436597 Question Type : MCQ Option Shuffling : No Is Question Mandatory : No Calculator : None Response Time : N.A Think Time : N.A Minimum Instruction Time : 0

Correct Marks : 5 Wrong Marks : 1

Question Key Details :

Key	Value
Comprehension	MCQ

The Deep web on internet which is not accessible by the regular search engines like Google Bing is known as:

1. Black web
2. Brown web
3. Dirty web
4. Dark web

Options :

485584146385. 1

485584146386. 2

485584146387. 3

485584146388. 4

Question Number : 212 Question Id : 48558436597 Question Type : MCQ Option Shuffling : No Is Question Mandatory : No Calculator : None Response Time : N.A Think Time : N.A Minimum Instruction Time : 0

Correct Marks : 5 Wrong Marks : 1

Question Key Details :

Key	Value
Comprehension	MCQ

இணையத்தில் எளிதாக இயக்க முடியாத Google bing தேடுதல் இயந்திரங்கள் போன்றவற்றை என்ன என்று அழைக்கலாம்?

1. பிளாக் வெப்
2. பிரவுன் வெப்
3. டர்டி வெப்
4. டார்க் வெப்

Options :

485584146385. 1

485584146386. 2

485584146387. 3

485584146388. 4

Question Number : 213 Question Id : 48558436598 Question Type : MCQ Option Shuffling : No Is Question Mandatory : No Calculator : None Response Time : N.A Think Time : N.A Minimum Instruction Time : 0

Correct Marks : 5 Wrong Marks : 1

Question Key Details :

Key	Value
Comprehension	MCQ

In order to foster scientific temper through the means of exciting educational experiences, a teacher can take her students to a:

1. Museum
2. Music program
3. Planetarium
4. Art gallery

Options :

485584146389. 1
485584146390. 2
485584146391. 3
485584146392. 4

Question Number : 213 Question Id : 48558436598 Question Type : MCQ Option Shuffling : No Is Question Mandatory : No Calculator : None Response Time : N.A Think Time : N.A Minimum Instruction Time : 0

Correct Marks : 5 Wrong Marks : 1

Question Key Details :

Key	Value
Comprehension	MCQ

மாணவர்களுக்கு அறிவியலின் நுணுக்கத்தையும், ஆர்வத்தையும் தூண்டும் வகையில் அவர்களின் பயிற்சி பெறுவதற்கு ஆசிரியர் எங்கு கூட்டிச் செல்ல வேண்டும்?

1. அருங்காட்சியகம்
2. இசை நிகழ்ச்சி
3. கோளரங்கம்
4. கலை பொருட்காட்சி

Options :

485584146389. 1
485584146390. 2
485584146391. 3
485584146392. 4

Question Number : 214 Question Id : 48558436599 Question Type : MCQ Option Shuffling : No Is Question Mandatory : No Calculator : None Response Time : N.A Think Time : N.A Minimum Instruction Time : 0

Correct Marks : 5 Wrong Marks : 1

Question Key Details :

Key	Value
-----	-------

Jantar Mantar is an assembly of stone-built astronomical instruments, designed to be used with naked eyes. A visit to Jantar Mantar can help students to learn how _____.

1. astronomy was a leisure activity of people in the past.
2. astronomy was practised in buildings made with red stones.
3. people measured time when there were no standard instruments to measure the passing of time.
4. people measured time in those civilizations in which stones were used to build everything.

Options :

485584146393. 1

485584146394. 2

485584146395. 3

485584146396. 4

Question Number : 214 Question Id : 48558436599 Question Type : MCQ Option Shuffling : No Is Question Mandatory : No Calculator : None Response Time : N.A Think Time : N.A Minimum Instruction Time : 0

Correct Marks : 5 Wrong Marks : 1

Question Key Details :

Key	Value
Comprehension	MCQ

ஜந்தர் மந்தர் என்பது கற்களாலேயே கட்டப்பட்ட கோள்கள் பற்றிய ஆய்வு உபகரணங்கள், அவைகள் வெறும் கண்களால் பார்க்கக்கூடிய ஒன்றாகும். ஜந்தர் மந்தருக்கு மாணவர்களைக் கூட்டிச் செல்வதால் அவர்கள் எவ்வாறு பயனடைவார்கள்?

1. பண்டைய காலத்தவரின் பொழுதுபோக்கு முறைதான் வானவியல் என்பது.
2. சிவப்பு நிற கற்களைக் கொண்டு கட்டிடங்களைக் கட்டுவதே வானவியல் என்பதாகும்.
3. நேரத்தை கணக்கிட ஒரு சிறந்த ஒழுங்குமுறை இல்லாத போதே மக்கள் நேரத்தை கணக்கிட்டனர்.
4. மக்கள் நேரத்தைக் கணக்கிடும் நேரத்தில் அந்த நாகரிகத்தில் கற்கள் கட்டிடம் மட்டுமே கட்ட பயன்பட்டது.

Options :

485584146393. 1

485584146394. 2

485584146395. 3

485584146396. 4

Question Number : 215 Question Id : 48558436600 Question Type : MCQ Option Shuffling : No Is Question Mandatory : No Calculator : None Response Time : N.A Think Time : N.A Minimum Instruction Time : 0

Correct Marks : 5 Wrong Marks : 1

Question Key Details :

Key	Value
Comprehension	MCQ

The first country to have entered the Mars orbit in its first attempt is:

1. USA
2. China
3. India
4. Russia

Options :

485584146397. 1
485584146398. 2
485584146399. 3
485584146400. 4

Question Number : 215 Question Id : 48558436600 Question Type : MCQ Option Shuffling : No Is Question Mandatory : No Calculator : None Response Time : N.A Think Time : N.A Minimum Instruction Time : 0

Correct Marks : 5 Wrong Marks : 1

Question Key Details :

Key	Value
Comprehension	MCQ

எந்த நாடு முதன் முதலில் செவ்வாய் கிரகத்தின் நீள்வட்டப்பாதையில் பயணம் செய்தது?

1. அமெரிக்கா
2. சீனா
3. இந்தியா
4. ரஷ்யா

Options :

485584146397. 1
485584146398. 2
485584146399. 3
485584146400. 4

Question Number : 216 Question Id : 48558436601 Question Type : MCQ Option Shuffling : No Is Question Mandatory : No Calculator : None Response Time : N.A Think Time : N.A Minimum Instruction Time : 0

Correct Marks : 5 Wrong Marks : 1

Question Key Details :

Key	Value
Comprehension	MCQ

The project of 'NASA' targeting the landing of first woman/women astronaut/s on moon is known as:

1. MOM
2. ARTEMIS
3. MISMOON
4. Moon opposition

Options :

485584146401. 1
485584146402. 2
485584146403. 3
485584146404. 4

Question Number : 216 Question Id : 48558436601 Question Type : MCQ Option Shuffling : No Is Question Mandatory : No Calculator : None Response Time : N.A Think Time : N.A Minimum Instruction Time : 0

Correct Marks : 5 Wrong Marks : 1

Question Key Details :

Key	Value
Comprehension	MCQ

'நாசாவின்' முதல் பெண்/பெண்கள் விண்வெளி வீரர்/வீரர்கள் சந்திரனில் கால வைக்கும் திட்டத்தை என்னவென்று அழைக்கலாம்?

1. மாம்
2. ஆர்டெமிஸ்
3. மிஸ்மூன்
4. மூன் அப்போஸிஷன்

Options :

485584146401. 1
485584146402. 2
485584146403. 3
485584146404. 4

Question Number : 217 Question Id : 48558436602 Question Type : MCQ Option Shuffling : No Is Question Mandatory : No Calculator : None Response Time : N.A Think Time : N.A Minimum Instruction Time : 0

Correct Marks : 5 Wrong Marks : 1

Question Key Details :

Key	Value
Comprehension	MCQ

Which of the following is NOT true: The turning points of the graph of a function :

1. Represent local maxima and local minima
2. Represent Absolute maxima and Absolute minima
3. Represent point of inflexion
4. Represent neither local maxima nor local minima

Options :

485584146405. 1
485584146406. 2
485584146407. 3
485584146408. 4

Question Number : 217 Question Id : 48558436602 Question Type : MCQ Option Shuffling : No Is Question Mandatory : No Calculator : None Response Time : N.A Think Time : N.A Minimum Instruction Time : 0

Correct Marks : 5 Wrong Marks : 1

Question Key Details :

Key	Value
Comprehension	MCQ

கிராபல் புள்ளிகள் திரும்புவதை என்னவென்று சீழ்க்காண்பவற்றுள் தேர்ந்தெடுத்து எழுதுக.

1. இடம் சார்ந்த பெருமம் மற்றும் சிறுமம் ஆகியவற்றை குறிக்கிறது.
2. தனித்த பெருமம் மற்றும் தனித்த சிறுமங்களை குறிக்கிறது.
3. இன்பிலக்சன் புள்ளியை குறிக்கிறது
4. இடம்சார்ந்த பெருமம் மற்றும் சிறுமங்களை குறிக்கவில்லை

Options :

485584146405. 1
485584146406. 2
485584146407. 3
485584146408. 4

Question Number : 218 Question Id : 48558436603 Question Type : MCQ Option Shuffling : No Is Question Mandatory : No Calculator : None Response Time : N.A Think Time : N.A Minimum Instruction Time : 0

Correct Marks : 5 Wrong Marks : 1

Question Key Details :

Key	Value
Comprehension	MCQ

Any teaching activity which puts before the students the real problems, that they have to solve for themselves, problems for which there are no easy solutions in any book _____.

1. brings them close to guide books
2. makes them skilled
3. crafts their activity
4. sharpens their intelligence

Options :

485584146409. 1
485584146410. 2
485584146411. 3
485584146412. 4

Question Number : 218 Question Id : 48558436603 Question Type : MCQ Option Shuffling : No Is Question Mandatory : No Calculator : None Response Time : N.A Think Time : N.A Minimum Instruction Time : 0

Correct Marks : 5 Wrong Marks : 1

Question Key Details :

Key	Value
Comprehension	MCQ

பயிற்றுவிக்கும்போது, மாணவர்களை உண்மையான பிரச்சனைகளுக்கு முடிவு காண்பதற்கும், அவர்களே அவற்றைக் கண்டுபிடிக்க வைப்பதும் ஆகும். எந்தவொரு புத்தகத்திலும் எளிதான முடிவுகள் இருப்பதில்லை ஏனெனில் _____.

1. இது கையேட்டிற்கு அவர்களை நெருங்கி கொண்டு வருகிறது
2. இது அவர்களை நிறமையானவர்கள் ஆக்குகிறது
3. இது அவர்களுடைய செயல்பாட்டை அலங்கரிக்கிறது
4. இது அவர்களுடைய அறிவுக் கூர்மையை அதிகப்படுத்துகிறது

Options :

485584146409. 1
485584146410. 2
485584146411. 3
485584146412. 4

Question Number : 219 Question Id : 48558436604 Question Type : MCQ Option Shuffling : No Is Question Mandatory : No Calculator : None Response Time : N.A Think Time : N.A Minimum Instruction Time : 0

Correct Marks : 5 Wrong Marks : 1

Question Key Details :

Key	Value
Comprehension	MCQ

A mathematics teacher told the students that her laptop and phone can run out of charge independently of each other. The probability that her phone is out of charge is 0.2 and the probability that they are both out of charge is 0.06. Find the probability that her laptop is out of charge.

1. 0.86
2. 0.4
3. 0.3
4. 0.14

Options :

485584146413. 1
485584146414. 2
485584146415. 3
485584146416. 4

Question Number : 219 Question Id : 48558436604 Question Type : MCQ Option Shuffling : No Is Question Mandatory : No Calculator : None Response Time : N.A Think Time : N.A Minimum Instruction Time : 0

Correct Marks : 5 Wrong Marks : 1

Question Key Details :

Key	Value
Comprehension	MCQ

ஒரு கணித ஆசிரியர் மாணவர்களிடம் தன்னுடைய மடிக்கணினியும் மற்றும் அவருடைய கைப்பேசியும் சார்ஜ் இல்லாமல் போகப்போகிறது எனக் கூறினார். அவருடைய கைப்பேசி 0.2 சாத்தியக்கூறிலும் இரண்டும் 0.06 நிகழ்தகவிலும் சார்ஜ் போகக்கூடும் என்று கூறினார். மடிக்கணினி சார்ஜ் போகும் நிகழ்தகவைக் கண்டறிக.

1. 0.86
2. 0.4
3. 0.3
4. 0.14

Options :

485584146413. 1
485584146414. 2
485584146415. 3
485584146416. 4

Question Number : 220 Question Id : 48558436605 Question Type : MCQ Option Shuffling : No Is Question Mandatory : No Calculator : None Response Time : N.A Think Time : N.A Minimum Instruction Time : 0

Correct Marks : 5 Wrong Marks : 1

Question Key Details :

Key	Value
Comprehension	MCQ

By explaining the theory of probability a teacher told that "For a particular E_i we can use a special formula."

Which theorem is he/she teaching?

1. Conditional Probability Theorem
2. Multiplication Theorem
3. Baye's Theorem
4. Total Probability Theorem

Options :

485584146417. 1
485584146418. 2
485584146419. 3
485584146420. 4

Question Number : 220 Question Id : 48558436605 Question Type : MCQ Option Shuffling : No Is Question Mandatory : No Calculator : None Response Time : N.A Think Time : N.A Minimum Instruction Time : 0

Correct Marks : 5 Wrong Marks : 1

Question Key Details :

Key	Value
Comprehension	MCQ

நிகழ்தகவு தேற்றத்தை(theory of probability) விளக்கிக் கூறும்போது ஆசிரியர் கூறியது, E_i க்கு அவர் முக்கிய வாய்ப்பாட்டை பயன்படுத்தலாம் என்று அதை கீழ்காண்பவற்றுள் அவர் எந்த தேற்றத்தை நடத்துகிறார் என்று கூறுங்கள்?

1. நிபந்தனை நிகழ்தகவு தேற்றம்
2. பெருக்கல் தேற்றம்
3. பேய்'ஸ் தேற்றம்
4. மொத்த நிகழ்தகவு தேற்றம்

Options :

485584146417. 1
485584146418. 2
485584146419. 3
485584146420. 4

Question Number : 221 Question Id : 48558436606 Question Type : MCQ Option Shuffling : No Is Question Mandatory : No Calculator : None Response Time : N.A Think Time : N.A Minimum Instruction Time : 0

Correct Marks : 5 Wrong Marks : 1

Question Key Details :

Key	Value
Comprehension	MCQ

If a child draws a tree by observing the trees in her surroundings and her teacher introduced scale drawings to her, the experience can help her to develop a _____.

1. sense of aesthetics
2. sense of proportion
3. sense of perspective
4. sense of transference

Options :

485584146421. 1
485584146422. 2
485584146423. 3
485584146424. 4

Question Number : 221 Question Id : 48558436606 Question Type : MCQ Option Shuffling : No Is Question Mandatory : No Calculator : None Response Time : N.A Think Time : N.A Minimum Instruction Time : 0

Correct Marks : 5 Wrong Marks : 1

Question Key Details :

Key	Value
Comprehension	MCQ

ஒரு குழந்தை தன்னை சுற்றியுள்ள மரங்களைப் பார்த்து ஒரு மரத்தை வரைகிறார். அவருடைய ஆசிரியர் அளவு வரைபடங்களை அவருக்கு அறிமுகப்படுத்தினால், அது அவரிடம் எதனை மேம்படுத்தும் _____.

1. அழகியல் உணர்வு
2. விகிதாச்சார உணர்வு
3. முன்னோக்கு உணர்வு
4. இடமாற்ற உணர்வு

Options :

485584146421. 1
485584146422. 2
485584146423. 3
485584146424. 4

Question Number : 222 Question Id : 48558436607 Question Type : MCQ Option Shuffling : No Is Question Mandatory : No Calculator : None Response Time : N.A Think Time : N.A Minimum Instruction Time : 0

Correct Marks : 5 Wrong Marks : 1

Question Key Details :

Key	Value
Comprehension	MCQ

A lot of school children find mathematics very difficult and social sciences easy. One of the reasons for their perceptive is that

1. mathematics demands expression
2. mathematics is not common knowledge
3. mathematics demands precision
4. mathematics involves concrete images

Options :

485584146425. 1
485584146426. 2
485584146427. 3
485584146428. 4

Question Number : 222 Question Id : 48558436607 Question Type : MCQ Option Shuffling : No Is Question Mandatory : No Calculator : None Response Time : N.A Think Time : N.A Minimum Instruction Time : 0

Correct Marks : 5 Wrong Marks : 1

Question Key Details :

Key	Value
Comprehension	MCQ

நிறைய பள்ளிக்குழந்தைகள் கணிதத்தை விரும்பாமலும் ஆனால் சமூக அறிவியலை மிகவும் விரும்புவதற்கான காரணங்கள் என்ன என்பதை கீழ்க்கண்டவற்றுள் கண்டறிக.

1. கணிதத்திற்கு விளக்கமாக சொல்லுதல் தேவை
2. கணிதம் என்பது ஒரு பொதுவான அறிவு அன்று
3. கணிதம் துல்லியத்தை எதிர்பார்க்கிறது/தேவைப்படுகிறது
4. கணிதம் உறுதியான படங்களை உட்படுகிறது

Options :

485584146425. 1
485584146426. 2
485584146427. 3
485584146428. 4

Question Number : 223 Question Id : 48558436608 Question Type : MCQ Option Shuffling : No Is Question Mandatory : No Calculator : None Response Time : N.A Think Time : N.A Minimum Instruction Time : 0

Correct Marks : 5 Wrong Marks : 1

Question Key Details :

Key	Value
Comprehension	MCQ

National Gallery of Modern Art (NGMA) is situated in

1. London
2. California
3. Kolkata
4. New Delhi

Options :

485584146429. 1
485584146430. 2
485584146431. 3
485584146432. 4

Question Number : 223 Question Id : 48558436608 Question Type : MCQ Option Shuffling : No Is Question Mandatory : No Calculator : None Response Time : N.A Think Time : N.A Minimum Instruction Time : 0

Correct Marks : 5 Wrong Marks : 1

Question Key Details :

Key	Value
Comprehension	MCQ

நவீன ஓவியங்களின் தேசிய கலைக்காட்சிக் கூடம் எங்கு அமைந்துள்ளது (NGMA)

1. லண்டன்
2. கலிபோர்னியா
3. கொல்கத்தா
4. புது டில்லி

Options :

485584146429. 1
485584146430. 2
485584146431. 3
485584146432. 4

Question Number : 224 Question Id : 48558436609 Question Type : MCQ Option Shuffling : No Is Question Mandatory : No Calculator : None Response Time : N.A Think Time : N.A Minimum Instruction Time : 0

Correct Marks : 5 Wrong Marks : 1

Question Key Details :

Key	Value
Comprehension	MCQ

Which School of Art was also known as Graeco Buddhist School of Art?

1. Amravati School of Art
2. Mathura School of Art
3. Gandhara School of Art
4. Bengal School of Art

Options :

485584146433. 1
485584146434. 2
485584146435. 3
485584146436. 4

Question Number : 224 Question Id : 48558436609 Question Type : MCQ Option Shuffling : No Is Question Mandatory : No Calculator : None Response Time : N.A Think Time : N.A Minimum Instruction Time : 0

Correct Marks : 5 Wrong Marks : 1

Question Key Details :

Key	Value
Comprehension	MCQ

எந்த கலைப்பள்ளியை கிரேக்கோ புத்திஸ்ட் ஸ்கூல் ஆப் ஆர்ட் என்று அழைப்பர்?

1. அமராவதி கலைப்பள்ளி
2. மதுரா கலைப்பள்ளி
3. காந்தாரா கலைப்பள்ளி
4. பெங்கால் கலைப்பள்ளி

Options :

485584146433. 1
485584146434. 2
485584146435. 3
485584146436. 4

Question Number : 225 Question Id : 48558436610 Question Type : MCQ Option Shuffling : No Is Question Mandatory : No Calculator : None Response Time : N.A Think Time : N.A Minimum Instruction Time : 0

Correct Marks : 5 Wrong Marks : 1

Question Key Details :

Key	Value
Comprehension	MCQ

What was the profession of Partha Mitter?

1. Painter
2. Sculptor
3. Art Historian
4. Architect

Options :

485584146437. 1
485584146438. 2
485584146439. 3
485584146440. 4

Question Number : 225 Question Id : 48558436610 Question Type : MCQ Option Shuffling : No Is Question Mandatory : No Calculator : None Response Time : N.A Think Time : N.A Minimum Instruction Time : 0

Correct Marks : 5 Wrong Marks : 1

Question Key Details :

Key	Value
Comprehension	MCQ

பார்த்தா மீட்டரின் வேலை என்ன?

1. ஓவியர்
2. சிற்பம் வடிப்பவர்
3. கலை வரலாற்று ஆசிரியர்
4. கட்டிடக்கலை நிபுணர்

Options :

485584146437. 1
485584146438. 2
485584146439. 3
485584146440. 4

Question Number : 226 Question Id : 48558436611 Question Type : MCQ Option Shuffling : No Is Question Mandatory : No Calculator : None Response Time : N.A Think Time : N.A Minimum Instruction Time : 0

Correct Marks : 5 Wrong Marks : 1

Question Key Details :

Key	Value
Comprehension	MCQ

'Contemporary Art in India : A perspective' is a book written by

1. Pran Nath Mago
2. Jasleen Dhamija
3. K. R. Srinivasan
4. Devi Prasad

Options :

485584146441. 1
485584146442. 2
485584146443. 3
485584146444. 4

Question Number : 226 Question Id : 48558436611 Question Type : MCQ Option Shuffling : No Is Question Mandatory : No Calculator : None Response Time : N.A Think Time : N.A Minimum Instruction Time : 0

Correct Marks : 5 Wrong Marks : 1

Question Key Details :

Key	Value
Comprehension	MCQ

தற்போதைய இந்திய கலை - ஒரு பார்வை ('Contemporary Art in India : A perspective') என்று புத்தகத்தை எழுதிய ஆசிரியர் யார்?

1. பிரான் நாத் மஹோ
2. ஜஸ்லீன் தமிஜா
3. கே.ஆர். சீனிவாசன்
4. தேவி பிரசாத்

Options :

485584146441. 1
485584146442. 2
485584146443. 3
485584146444. 4

Question Number : 227 Question Id : 48558436612 Question Type : MCQ Option Shuffling : No Is Question Mandatory : No Calculator : None Response Time : N.A Think Time : N.A Minimum Instruction Time : 0

Correct Marks : 5 Wrong Marks : 1

Question Key Details :

Key	Value
Comprehension	MCQ

A technique of portraying an object to be closer than it actually is, or having less depth or distance, is called

1. Depth of field
2. Foreshortening
3. Focusing
4. Illustration

Options :

485584146445. 1
485584146446. 2
485584146447. 3
485584146448. 4

Question Number : 227 Question Id : 48558436612 Question Type : MCQ Option Shuffling : No Is Question Mandatory : No Calculator : None Response Time : N.A Think Time : N.A Minimum Instruction Time : 0

Correct Marks : 5 Wrong Marks : 1

Question Key Details :

Key	Value
Comprehension	MCQ

ஒரு பொருளை அதனுடைய உண்மையான தூரத்தில் இருந்து நெருக்கமாக காட்டும் தொழில்நுட்பம் அல்லது ஆடி இல்லாமல் அல்லது தூரமில்லாமல் காண்பிப்பதை என்னவென்று சொல்லலாம்?

1. டெப்த் ஆப் பீல்ட்
2. போர்ஷாட்டனிங்
3. போக்கசிங்
4. இல்லஸ்ரேட்டட்

Options :

485584146445. 1
485584146446. 2
485584146447. 3
485584146448. 4

Question Number : 228 Question Id : 48558436613 Question Type : MCQ Option Shuffling : No Is Question Mandatory : No Calculator : None Response Time : N.A Think Time : N.A Minimum Instruction Time : 0

Correct Marks : 5 Wrong Marks : 1

Question Key Details :

Key	Value
Comprehension	MCQ

The artwork 'Santhal Family' made by Ramkinker Vaijis is which medium/ form

1. Oil Painting
2. Mural
3. Sculpture
4. Monograph

Options :

485584146449. 1
485584146450. 2
485584146451. 3
485584146452. 4

Question Number : 228 Question Id : 48558436613 Question Type : MCQ Option Shuffling : No Is Question Mandatory : No Calculator : None Response Time : N.A Think Time : N.A Minimum Instruction Time : 0

Correct Marks : 5 Wrong Marks : 1

Question Key Details :

Key	Value
Comprehension	MCQ

ரவி கிங்கர் வாஜி என்பவரின் 'சந்தலி பேமிலி' என்ற கலைப்படைப்பின் வழி எது?

1. எண்ணெய் பயன்படுத்திய ஓவியம்
2. சுவர் சித்திரம்
3. சிலை
4. மோனோ கிராப்

Options :

485584146449. 1
485584146450. 2
485584146451. 3
485584146452. 4

Question Number : 229 Question Id : 48558436614 Question Type : MCQ Option Shuffling : No Is Question Mandatory : No Calculator : None Response Time : N.A Think Time : N.A Minimum Instruction Time : 0

Correct Marks : 5 Wrong Marks : 1

Question Key Details :

Key	Value
Comprehension	MCQ

Match List I with List II

LIST I		LIST II	
A.	Intrusive igneous rock	I.	Slate
B.	Extrusive igneous rock	II.	Basalt
C.	Sedimentary rock	III.	Granite
D.	Metamorphic rock	IV.	Lime stone

Choose the correct answer from the options given below:

1. A-III, B-II, C-IV, D-I
2. A-I, B-II, C-III, D-IV
3. A-IV, B-III, C-II, D-I
4. A-II, B-III, C-I, D-IV

Options :

485584146453. 1
485584146454. 2
485584146455. 3
485584146456. 4

Question Number : 229 Question Id : 48558436614 Question Type : MCQ Option Shuffling : No Is Question Mandatory : No Calculator : None Response Time : N.A Think Time : N.A Minimum Instruction Time : 0

Correct Marks : 5 Wrong Marks : 1

Question Key Details :

Key	Value
Comprehension	MCQ

பட்டியல் I ஐ பட்டியல் II உடன் பொருத்துக

பட்டியல் I		பட்டியல் II	
A.	இன்றூசில் இக்னியஸ் ராக்	I.	ஸ்லேட்
B.	எக்ஸ்ட்ரூசில் இக்னியஸ் ராக்	II.	பாசால்ட்
C.	செடிமென்ட்ரி ராக்	III.	கிரானைட்
D.	மெட்மார்பிக் ராக்	IV.	லைம் ஸ்டோன்

கீழே தரப்பட்டுள்ள வாய்ப்புகளில் இருந்து சரியான விடையைத் தேர்ந்தெடுக்கவும்:

1. A-III, B-II, C-IV, D-I
2. A-I, B-II, C-III, D-IV
3. A-IV, B-III, C-II, D-I
4. A-II, B-III, C-I, D-IV

Options :

485584146453. 1
485584146454. 2
485584146455. 3

485584146456.4

Question Number : 230 Question Id : 48558436615 Question Type : MCQ Option Shuffling : No Is Question Mandatory : No Calculator : None Response Time : N.A Think Time : N.A Minimum Instruction Time : 0

Correct Marks : 5 Wrong Marks : 1

Question Key Details :

Key	Value
Comprehension	MCQ

The content of teaching social sciences should aim at raising students' awareness through

1. questioning of familiar social reality
2. enacting of familiar social reality
3. developing a neutral perspective on society
4. transmitting an idea of society

Options :

485584146457. 1
485584146458. 2
485584146459. 3
485584146460. 4

Question Number : 230 Question Id : 48558436615 Question Type : MCQ Option Shuffling : No Is Question Mandatory : No Calculator : None Response Time : N.A Think Time : N.A Minimum Instruction Time : 0

Correct Marks : 5 Wrong Marks : 1

Question Key Details :

Key	Value
Comprehension	MCQ

சமூக அறிவியலை பயிற்றுவிப்பதின் நோக்கம் மாணவர்களுக்கு பின்வருவனவற்றுள் எதை மேம்படுத்துவதற்கு மேற்கொள்ளப்படுகிறது?

1. சமூகத்தில் நிகழும் உண்மையான சம்பவங்களை கேள்வி கேட்பது
2. சமூகத்தில் உள்ள உண்மையான நிலையை நடித்துக் காட்டுவது
3. சமூகத்தின் மேல் நடுநிலையான மனப்பான்மையை முன்னேற்றுவதல்/ வைத்துக்கொள்ளுதல்
4. சமூகத்தினுடைய மனப்பான்மை அனைவருக்கும் பரப்புவது

Options :

485584146457. 1
485584146458. 2
485584146459. 3
485584146460. 4

Question Number : 231 Question Id : 48558436616 Question Type : MCQ Option Shuffling : No Is Question Mandatory : No Calculator : None Response Time : N.A Think Time : N.A Minimum Instruction Time : 0

Correct Marks : 5 Wrong Marks : 1

Question Key Details :

Key	Value
Comprehension	MCQ

Who wrote the book "History of British India" ?

1. James Mill
2. James Rainil
3. Warren Hastings
4. Cornwallis

Options :

485584146461. 1
485584146462. 2
485584146463. 3
485584146464. 4

Question Number : 231 Question Id : 48558436616 Question Type : MCQ Option Shuffling : No Is Question Mandatory : No Calculator : None Response Time : N.A Think Time : N.A Minimum Instruction Time : 0

Correct Marks : 5 Wrong Marks : 1

Question Key Details :

Key	Value
Comprehension	MCQ

ஆங்கிலேயர்களின் இந்திய வரலாறு ("History of British India") என்ற நூலை எழுதியவர் யார்?

1. ஜேம்ஸ் மில்
2. ஜேம்ஸ் ரெய்னில்
3. வாரன் ஹேஸ்டிங்ஸ்
4. கார்ன் வாலிஸ்

Options :

485584146461. 1
485584146462. 2
485584146463. 3
485584146464. 4

Question Number : 232 Question Id : 48558436617 Question Type : MCQ Option Shuffling : No Is Question Mandatory : No Calculator : None Response Time : N.A Think Time : N.A Minimum Instruction Time : 0

Correct Marks : 5 Wrong Marks : 1

Question Key Details :

Key	Value
Comprehension	MCQ

The school level social sciences encompass _____ concerns of society and include a wide range of content drawn from various disciplines.

1. unitary
2. overarching
3. diverse
4. sweeping

Options :

485584146465. 1
485584146466. 2
485584146467. 3
485584146468. 4

Question Number : 232 Question Id : 48558436617 Question Type : MCQ Option Shuffling : No Is Question Mandatory : No Calculator : None Response Time : N.A Think Time : N.A Minimum Instruction Time : 0

Correct Marks : 5 Wrong Marks : 1

Question Key Details :

Key	Value
Comprehension	MCQ

பள்ளிகளில் பயிற்றுவிக்கப்படும் சமூக அறிவியலானது _____
உட்படுத்தியதாகவும் சமூகத்தில் இருக்கும் பலவிதமான விஷயங்களையும் மற்றும்
வெவ்வேறு துறைகளின் கலப்பும் இருக்கும்

1. அலகு சார்ந்த
2. ஓவர் ஆர்க்கிங்
3. பலவகையான
4. தூர்த்து எடுத்தல்

Options :

485584146465. 1
485584146466. 2
485584146467. 3
485584146468. 4

Question Number : 233 Question Id : 48558436618 Question Type : MCQ Option Shuffling : No Is Question Mandatory : No Calculator : None Response Time : N.A Think Time : N.A Minimum Instruction Time : 0

Correct Marks : 5 Wrong Marks : 1

Question Key Details :

Key	Value
Comprehension	MCQ

Which of the following subjects has replaced 'civics' in the school syllabus?

1. Civilization
2. Social and Political life
3. Economic and Social Life
4. Nationalism

Options :

485584146469. 1
485584146470. 2
485584146471. 3
485584146472. 4

Question Number : 233 Question Id : 48558436618 Question Type : MCQ Option Shuffling : No Is Question Mandatory : No Calculator : None Response Time : N.A Think Time : N.A Minimum Instruction Time : 0

Correct Marks : 5 Wrong Marks : 1

Question Key Details :

Key	Value
Comprehension	MCQ

கீழ்க்கண்டவற்றுள் எந்தெந்த பாடங்கள் குடிமையியலை பள்ளிப்பாடத்தில் மாற்றியது?

1. நாகரிகம்
2. சமூக மற்றும் அரசியல் வாழ்க்கை
3. பொருளாதார மற்றும் சமூக வாழ்க்கை
4. தேசியம்

Options :

485584146469. 1
485584146470. 2
485584146471. 3
485584146472. 4

Question Number : 234 Question Id : 48558436619 Question Type : MCQ Option Shuffling : No Is Question Mandatory : No Calculator : None Response Time : N.A Think Time : N.A Minimum Instruction Time : 0

Correct Marks : 5 Wrong Marks : 1

Question Key Details :

Key	Value
Comprehension	MCQ

Today, if a teacher wants to teach the importance of good deeds and practicing non-violence, she can use the following as a resource:

1. Ambedkar's writings
2. Jaina teachings
3. Puranic Literature
4. Akbarnama

Options :

485584146473. 1
485584146474. 2
485584146475. 3
485584146476. 4

Question Number : 234 Question Id : 48558436619 Question Type : MCQ Option Shuffling : No Is Question Mandatory : No Calculator : None Response Time : N.A Think Time : N.A Minimum Instruction Time : 0

Correct Marks : 5 Wrong Marks : 1

Question Key Details :

Key	Value
Comprehension	MCQ

தற்சமயம், ஒரு ஆசிரியை மாணவர்களுக்கு நன்னடத்தை மற்றும் அகிம்சையைப் பற்றியும் அவற்றின் இன்றியமையாதப் பண்பைப் பற்றியும் கற்பிக்க விரும்பினால், அவர் கீழ்க்கண்டவற்றுள் எந்த மூலப்பொருளை பயன்படுத்தலாம்?

1. அம்பேத்கரின் எழுத்துகள்
2. ஜைன மத போதனைகள்
3. புராண இலக்கியங்கள்
4. அக்பர் நாமா

Options :

485584146473. 1
485584146474. 2
485584146475. 3
485584146476. 4

Question Number : 235 Question Id : 48558436620 Question Type : MCQ Option Shuffling : No Is Question Mandatory : No Calculator : None Response Time : N.A Think Time : N.A Minimum Instruction Time : 0

Correct Marks : 5 Wrong Marks : 1

Question Key Details :

Key	Value
Comprehension	MCQ

Literary devices such as simile and metaphor are used in which of the following?

1. Prose
2. Poetry
3. Grammar
4. Drama

Options :

485584146477. 1
485584146478. 2
485584146479. 3
485584146480. 4

Question Number : 235 Question Id : 48558436620 Question Type : MCQ Option Shuffling : No Is Question Mandatory : No Calculator : None Response Time : N.A Think Time : N.A Minimum Instruction Time : 0

Correct Marks : 5 Wrong Marks : 1

Question Key Details :

Key	Value
Comprehension	MCQ

simile, metaphor போன்ற அளவைகள் கீழ்க்கண்டவற்றுள் எதில் உபயோகிக்கப்படுகின்றது?

1. உரைநடை
2. கவிதைகள்
3. இலக்கணம்
4. நாடகம்

Options :

485584146477. 1
485584146478. 2
485584146479. 3
485584146480. 4

Question Number : 236 Question Id : 48558436621 Question Type : MCQ Option Shuffling : No Is Question Mandatory : No Calculator : None Response Time : N.A Think Time : N.A Minimum Instruction Time : 0

Correct Marks : 5 Wrong Marks : 1

Question Key Details :

Key	Value
Comprehension	MCQ

'Man is a born child, his power is the power of growth.'

What is the meaning of this sentence?

1. Humans should remain stagnant
2. Humans should refrain from adding to sources of knowledge
3. Intellectual and cognitive regression are important characteristics of humans
4. Intellectual and cognitive development are important characteristics of human.

Options :

485584146481. 1
485584146482. 2
485584146483. 3
485584146484. 4

Question Number : 236 Question Id : 48558436621 Question Type : MCQ Option Shuffling : No Is Question Mandatory : No Calculator : None Response Time : N.A Think Time : N.A Minimum Instruction Time : 0

Correct Marks : 5 Wrong Marks : 1

Question Key Details :

Key	Value
Comprehension	MCQ

'மனிதன் பிறக்கும் போதே குழந்தையாய் பிறக்கிறான். அவனுடைய வளர்ச்சி அவனின் பலம்.'

இந்த வாக்கியத்தின் பொருள் என்ன?

1. மனிதர்கள் எப்போதுமே வளரக்கூடாது
2. மனிதர்கள் அறிவை வளர்த்துக்கொள்வதில் இருந்து தன்னை காத்துக்கொள்ள வேண்டும்
3. அறிவார்ந்த மற்றும் பின்னோக்கி செல்லக்கூடியது மனித மூளையின் முக்கியமான சிறப்பியல்பு ஆகும்
4. அறிவார்ந்த மற்றும் முன்னோக்கி செல்லக்கூடிய மனித மூளையின் முக்கியமான சிறப்பியல்பு ஆகும்

Options :

485584146481. 1
485584146482. 2
485584146483. 3
485584146484. 4

Question Number : 237 Question Id : 48558436622 Question Type : MCQ Option Shuffling : No Is Question Mandatory : No Calculator : None Response Time : N.A Think Time : N.A Minimum Instruction Time : 0

Correct Marks : 5 Wrong Marks : 1

Question Key Details :

Key	Value
Comprehension	MCQ

The Booker Prize 2022 was awarded to which Indian novel?

1. The Alchemist
2. A Tomb of Sand
3. Train to Pakistan
4. One Hundred Years of Solitude

Options :

485584146485. 1
485584146486. 2
485584146487. 3
485584146488. 4

Question Number : 237 Question Id : 48558436622 Question Type : MCQ Option Shuffling : No Is Question Mandatory : No Calculator : None Response Time : N.A Think Time : N.A Minimum Instruction Time : 0

Correct Marks : 5 Wrong Marks : 1

Question Key Details :

Key	Value
Comprehension	MCQ

எந்த இந்திய நாவலுக்கு "தி பூக்கர் பரிசு 2022" வழங்கி கௌரவிக்கப்பட்டது?

1. தி அல்கெமிஸ்ட்
2. ஏ ரீம் ஆப் சான்ட்
3. டிரெயின் டு பாசிஸ்தான்
4. ஒன் ஹன்ட்ரெட் இயர்ஸ் ஆப் சானிட்யூட்

Options :

485584146485. 1
485584146486. 2
485584146487. 3
485584146488. 4

Question Number : 238 Question Id : 48558436623 Question Type : MCQ Option Shuffling : No Is Question Mandatory : No Calculator : None Response Time : N.A Think Time : N.A Minimum Instruction Time : 0

Correct Marks : 5 Wrong Marks : 1

Question Key Details :

Key	Value
Comprehension	MCQ

What are the challenges faced by students while learning English in India?

- A. Lack of trained teachers
- B. Lack of an enabling language environment
- C. Rote memorisation of poems
- D. Objective way of testing language skills
- E. Lack of proper teaching - learning materials

Choose the correct answer from the options given below:

- 1. A, B, C only
- 2. B, C, D only
- 3. A, B, C, D only
- 4. A, B, C, D and E

Options :

- 485584146489. 1
- 485584146490. 2
- 485584146491. 3
- 485584146492. 4

Question Number : 238 Question Id : 48558436623 Question Type : MCQ Option Shuffling : No Is Question Mandatory : No Calculator : None Response Time : N.A Think Time : N.A Minimum Instruction Time : 0

Correct Marks : 5 Wrong Marks : 1

Question Key Details :

Key	Value
Comprehension	MCQ

இந்தியாவில் மாணவர்கள் ஆங்கிலத்தைக் கற்கும்போது எதிர்கொள்ளும் சவால்கள் எவை?

- A. திறமையாக பயிற்றுவிக்கப்பட ஆசிரியர்கள் குறைவு/பற்றாக்குறை
- B. மொழியை வளர்த்துக்கொள்ள சூழ்நிலை பற்றாக்குறை
- C. மனப்பாடத்தையே கல்வியாக நினைப்பது/கவிதைகளை மனப்பாடம் செய்வது
- D. உணர்வுக்குப் புறம்பாக நிகழ்கிற மொழி தேர்வு முறை
- E. சிறந்த கற்பித்தல் முறை - கற்பிக்கும் உபகரணங்களின் பற்றாக்குறை

கீழே தரப்பட்டுள்ள வாய்ப்புகளில் இருந்து சரியான விடையைத் தேர்ந்தெடுக்கவும்:

- 1. A, B, C மட்டும்
- 2. B, C, D மட்டும்
- 3. A, B, C, D மட்டும்
- 4. A, B, C, D மற்றும் E

Options :

- 485584146489. 1

485584146490. 2

485584146491. 3

485584146492. 4

Question Number : 239 Question Id : 48558436624 Question Type : MCQ Option Shuffling : No Is Question Mandatory : No Calculator : None Response Time : N.A Think Time : N.A Minimum Instruction Time : 0

Correct Marks : 5 Wrong Marks : 1

Question Key Details :

Key	Value
Comprehension	MCQ

What is a biography?

1. An account of a person written by oneself.
2. An account of a person written by others.
3. A book of biology.
4. A historical account.

Options :

485584146493. 1

485584146494. 2

485584146495. 3

485584146496. 4

Question Number : 239 Question Id : 48558436624 Question Type : MCQ Option Shuffling : No Is Question Mandatory : No Calculator : None Response Time : N.A Think Time : N.A Minimum Instruction Time : 0

Correct Marks : 5 Wrong Marks : 1

Question Key Details :

Key	Value
Comprehension	MCQ

சுயசரிதை (Biography) என்றால் என்ன?

1. ஒருவர் அவரைப்பற்றியே எழுதுவது
2. ஒருவர் மற்றொருவரைப் பற்றி எழுதுவது
3. உயிரியல் புத்தகம்
4. வரலாற்றுக் குறிப்பு

Options :

485584146493. 1

485584146494. 2

485584146495. 3

485584146496. 4

Question Number : 240 Question Id : 48558436625 Question Type : MCQ Option Shuffling : No Is Question Mandatory : No Calculator : None Response Time : N.A Think Time : N.A Minimum Instruction Time : 0

Correct Marks : 5 Wrong Marks : 1

Question Key Details :

Key	Value
Comprehension	MCQ

How can grammar books be modified to minimise the difficulties learners face while learning grammar?

- A. By teaching grammar in context
- B. By including pictures and illustrations
- C. By giving more practice and examples
- D. By focusing only on the rules
- E. By translating in different languages

Choose the correct answer from the options given below:

- 1. A, B, C only
- 2. A, D, E only
- 3. C, D, E only
- 4. B, C, D only

Options :

- 485584146497. 1
- 485584146498. 2
- 485584146499. 3
- 485584146500. 4

Question Number : 240 Question Id : 48558436625 Question Type : MCQ Option Shuffling : No Is Question Mandatory : No Calculator : None Response Time : N.A Think Time : N.A Minimum Instruction Time : 0

Correct Marks : 5 Wrong Marks : 1

Question Key Details :

Key	Value
Comprehension	MCQ

இலக்கண நூல்கள் எவ்வாறு எளிமைப்படுத்தப்பட்டு, கற்பிப்போருக்கு எளிதாக புரியும் வகையில் மாற்றப்பட முடியும்?

- A. சூழ்நிலையைப் பொருத்து இலக்கணம் கற்பிப்பது
- B. காட்சிகளையும், படங்களையும் கற்பிக்கும்போது பயன்படுத்துதல்
- C. உதாரணங்கள் மூலமும் பயிற்சிகள் மூலம் கற்பித்தல்
- D. வினிகளின்படி மட்டுமே கற்பித்தல்
- E. நிறைய மொழிகளில் மொழிபெயர்ப்பதன் மூலம்

கீழே தரப்பட்டுள்ள வாய்ப்புகளில் இருந்து சரியான விடையைத் தேர்ந்தெடுக்கவும்:

- 1. A, B, C மட்டும்
- 2. A, D, E மட்டும்
- 3. C, D, E மட்டும்
- 4. B, C, D மட்டும்

Options :

- 485584146497. 1
- 485584146498. 2
- 485584146499. 3
- 485584146500. 4

Sub-Section Number :

2

Sub-Section Id :

4855842703

Question Shuffling Allowed :

No

Is Section Default? :

null

Question Number : 241 Question Id : 48558436626 Question Type : MCQ Option Shuffling : No Is Question Mandatory : No Calculator : None Response Time : N.A Think Time : N.A Minimum Instruction Time : 0

Correct Marks : 5 Wrong Marks : 1

Question Key Details :

Key	Value
Comprehension	Comp1

At the upper primary level, the emphasis is on engaging the learner in learning principles of science through familiar experiences, working with hands to design simple technological units and modules and continuing to learn more on environment and health through activities and surveys.

As a science teacher, you will agree that scientific concepts are learnt better if learners explore them through activities and experiments. Learners should be given opportunity to explore science in their everyday experiences. You should engage learners (preferably in groups) in meaningful investigations - particularly of the problems they perceive to be significant and important.

As a science teacher, you should encourage discussions with the teacher and peers. You can ask your learners to gather information from newspapers, knowledgeable persons in the neighborhood, and from easily available sources and discuss about them in class with peers and teachers.

Role play, skits, cooperative learning strategies should be adopted to ensure larger participation and sharing of learning outcomes. It is advised that biographical narratives of scientists and inventors can be used. You should keep in mind that efforts should be continued for development of the process skills of science.

In order to explore the orbits and distribution of electrons in orbits, which could be the most appropriate teaching strategy/method?

1. Lecture
2. Demonstration
3. Brain-storming followed by exercise
4. Numerical Practice

Options :

- 485584146501. 1
- 485584146502. 2
- 485584146503. 3
- 485584146504. 4

Question Number : 241 Question Id : 48558436626 Question Type : MCQ Option Shuffling : No Is Question Mandatory : No Calculator : None Response Time : N.A Think Time : N.A Minimum Instruction Time : 0

Correct Marks : 5 Wrong Marks : 1

Question Key Details :

Key	Value
Comprehension	Comp1

உயர் தொடக்கநிலையில் கற்றுக்கொள்பவர்க்கு அறிவியலின் மூலம் மிகவும் ஆரம்பித்திருந்தோ அல்லது அதை போன்று வேறு அனுபவங்கள் வழியிலும், கைகளை உபயோகித்து செய்யும் செயல்பாடுகளையும், அவர்களாகவே உருவாக்கும் சிறு சிறு உருவங்களால் அவர்களின் கற்றுக்கொள்ளும் திறன் மற்றும் தொடர்ச்சியாக இந்த சூழ்நிலையில் இருந்தால் மாணவர்கள் நன்முறையில் வளர்த்தெடுக்கப்படுவர்.

ஒரு அறிவியல் ஆசிரியராக நீங்கள் அறிவியல் பூர்வமான கோட்பாடுகளை எளிதில் கற்பிக்கும் முறை இருந்தாலும், கற்பவர்கள் அவற்றையெல்லாம் தன்னுடைய சொந்த முயற்சியில் அதை கற்க அவர்களுக்கு வாய்ப்பு அளிக்கப்பட வேண்டும். கற்பவர்களை அவர்களின் மன நிலையில் இருந்து அவர்களை அர்த்தமுள்ள ஆராய்வுகளாலும் முக்கியமாக சவால்களை தன்னால் சரிசெய்ய முடியும் என்ற மனநிலையோடு நினைக்க வைக்க வேண்டியது மிகவும் முக்கியம்.

ஒரு அறிவியல் ஆசிரியராக மாணவர்களை வகுப்பறையில் கருத்துக்களை ஆசிரியரிடம் பரிமாற வரவேற்க வேண்டும். ஆசிரியராகிய நீங்கள் உங்கள் மாணவர்களிடம் தகவல்களை தன்னை சந்திப்பவர்கள், உறவினர்கள், செய்தித்தாள்கள், இணையம், வயது முதிர்ந்தவர்களிடம் இருந்து பெற்று அதை வகுப்பறையில் ஆசிரியர்களிடமும் தன்னுடைய சக மாணவர்களிடமும் பகிர்ந்துகொள்ள வரவேற்க வேண்டும்.

நாடகம், மாதிரி நடிப்பு, கூடி பயிலும் கற்கும் முறைகளை மாணவர்கள் அதிகமாக பங்கெடுக்க ஊக்குவிக்க வேண்டும். இவற்றினால் அவர்களின் கற்கும் திறன் அதிகரிக்கும். சுயசரிதைகள் மற்றும் மற்றவர்களைப் பற்றிய வாழ்க்கை கதைகளையும், அறிவியல் அறிஞர்கள் சார்ந்த கதைகளையும் மாணவர்கள் வாசித்தால் அவர்களுக்கு மிகவும் உபயோகமாக இருக்கும். இந்த முயற்சியானது எப்போதும் தொடரவேண்டும் ஏனென்றால் தகவல்கள் எப்போதுமே நமக்கு உதவியாக இருக்கும்.

ஆர்பிட்டில் இருக்கும் எலக்ட்ரான்களை பற்றி தெரிந்துகொள்ள எந்தவிதமான கற்பிக்கும் முறை பயன்படுத்தலாம்?

1. விரிவுரைப்பது
2. செய்துகாட்டுதல்
3. போதுமான, தேவையான கருத்துக்களை கொடுத்து பின்பு அவற்றை பயிற்சி செய்ய வைத்தல்
4. எண் நடைமுறை

Options :

485584146501. 1
 485584146502. 2
 485584146503. 3
 485584146504. 4

Question Number : 242 Question Id : 48558436627 Question Type : MCQ Option Shuffling : No Is Question Mandatory : No Calculator : None Response Time : N.A Think Time : N.A Minimum Instruction Time : 0

Correct Marks : 5 Wrong Marks : 1

Question Key Details :

Key	Value
Comprehension	Comp1

At the upper primary level, the emphasis is on engaging the learner in learning principles of science through familiar experiences, working with hands to design simple technological units and modules and continuing to learn more on environment and health through activities and surveys.

As a science teacher, you will agree that scientific concepts are learnt better if learners explore them through activities and experiments. Learners should be given opportunity to explore science in their everyday experiences. You should engage learners (preferably in groups) in meaningful investigations - particularly of the problems they perceive to be significant and important.

As a science teacher, you should encourage discussions with the teacher and peers. You can ask your learners to gather information from newspapers, knowledgeable persons in the neighborhood, and from easily available sources and discuss about them in class with peers and teachers.

Role play, skits, cooperative learning strategies should be adopted to ensure larger participation and sharing of learning outcomes. It is advised that biographical narratives of scientists and inventors can be used. You should keep in mind that efforts should be continued for development of the process skills of science.

Which would be the most appropriate teaching learning material to explain different types of atomic models?

1. Charts
2. Pictures
3. Video animation
4. Black board

Options :

485584146505. 1
485584146506. 2
485584146507. 3
485584146508. 4

Question Number : 242 Question Id : 48558436627 Question Type : MCQ Option Shuffling : No Is Question Mandatory : No Calculator : None Response Time : N.A Think Time : N.A Minimum Instruction Time : 0

Correct Marks : 5 Wrong Marks : 1

Question Key Details :

Key	Value
Comprehension	Comp1

உயர் தொடக்கநிலையில் கற்றுக்கொள்பவர்க்கு அறிவியலின் மூலம் மிகவும் ஆரம்பித்திலிருந்தோ அல்லது அதை போன்று வேறு அனுபவங்கள் வழியிலும், கைகளை உபயோகித்து செய்யும் செயல்பாடுகளையும், அவர்களாகவே உருவாக்கும் சிறு சிறு உருவங்களால் அவர்களின் கற்றுக்கொள்ளும் திறன் மற்றும் தொடர்ச்சியாக இந்த சூழ்நிலையில் இருந்தால் மாணவர்கள் நன்முறையில் வளர்த்தெடுக்கப்படுவர்.

ஒரு அறிவியல் ஆசிரியராக நீங்கள் அறிவியல் பூர்வமான கோட்பாடுகளை எளிதில் கற்பிக்கும் முறை இருந்தாலும், கற்பவர்கள் அவற்றையெல்லாம் தன்னுடைய சொந்த முயற்சியில் அதை கற்க அவர்களுக்கு வாய்ப்பு அளிக்கப்பட வேண்டும். கற்பவர்களை அவர்களின் மன நிலையில் இருந்து அவர்களை அர்த்தமுள்ள ஆராய்வுகளாலும் முக்கியமாக சவால்களை தன்னால் சரிசெய்ய முடியும் என்ற மனநிலையோடு நினைக்க வைக்க வேண்டியது மிகவும் முக்கியம்.

ஒரு அறிவியல் ஆசிரியராக மாணவர்களை வகுப்பறையில் கருத்துக்களை ஆசிரியரிடம் பரிமாற வரவேற்க வேண்டும். ஆசிரியராகிய நீங்கள் உங்கள் மாணவர்களிடம் தகவல்களை தன்னை சந்திப்பவர்கள், உறவினர்கள், செய்தித்தாள்கள், இணையம், வயது முதிர்ந்தவர்களிடம் இருந்து பெற்று அதை வகுப்பறையில் ஆசிரியர்களிடமும் தன்னுடைய சக மாணவர்களிடமும் பகிர்ந்துகொள்ள வரவேற்க வேண்டும்.

நாடகம், மாடிரி நடிப்பு, கூடி பயிலும் கற்கும் முறைகளை மாணவர்கள் அதிகமாக பங்கெடுக்க ஊக்குவிக்க வேண்டும். இவற்றினால் அவர்களின் கற்கும் திறன் அதிகரிக்கும். சுயசரிதைகள் மற்றும் மற்றவர்களைப் பற்றிய வாழ்க்கை கதைகளையும், அறிவியல் அறிஞர்கள் சார்ந்த கதைகளையும் மாணவர்கள் வாசித்தால் அவர்களுக்கு மிகவும் உபயோகமாக இருக்கும். இந்த முயற்சியானது எப்போதும் தொடரவேண்டும் ஏனென்றால் தகவல்கள் எப்போதுமே நமக்கு உதவியாக இருக்கும்.

அணுவில் அடாமிக் வகைகளைப் பற்றி அறிந்துகொள்ள எந்த விதமான சரியான கற்பிக்கும் முறை/கற்கும் மூலப்பொருட்கள் தேவைப்படும்?

1. சார்ட்ஸ்
2. பிக்சர்ஸ்
3. வீடியோ அனிமேஷன்
4. கரும்பலகை

Options :

485584146505. 1
 485584146506. 2
 485584146507. 3
 485584146508. 4

Question Number : 243 Question Id : 48558436628 Question Type : MCQ Option Shuffling : No Is Question Mandatory : No Calculator : None Response Time : N.A Think Time : N.A Minimum Instruction Time : 0

Correct Marks : 5 Wrong Marks : 1

Question Key Details :

Key	Value
Comprehension	Comp1

At the upper primary level, the emphasis is on engaging the learner in learning principles of science through familiar experiences, working with hands to design simple technological units and modules and continuing to learn more on environment and health through activities and surveys.

As a science teacher, you will agree that scientific concepts are learnt better if learners explore them through activities and experiments. Learners should be given opportunity to explore science in their everyday experiences. You should engage learners (preferably in groups) in meaningful investigations - particularly of the problems they perceive to be significant and important.

As a science teacher, you should encourage discussions with the teacher and peers. You can ask your learners to gather information from newspapers, knowledgeable persons in the neighborhood, and from easily available sources and discuss about them in class with peers and teachers.

Role play, skits, cooperative learning strategies should be adopted to ensure larger participation and sharing of learning outcomes. It is advised that biographical narratives of scientists and inventors can be used. You should keep in mind that efforts should be continued for development of the process skills of science.

If a teacher is teaching types of sub-atomic particles and their charges, which could be the most appropriate tool for assesment?

1. Unit tests
2. Oral test
3. A field project
4. Crossword puzzle

Options :

- 485584146509. 1
- 485584146510. 2
- 485584146511. 3
- 485584146512. 4

Question Number : 243 Question Id : 48558436628 Question Type : MCQ Option Shuffling : No Is Question Mandatory : No Calculator : None Response Time : N.A Think Time : N.A Minimum Instruction Time : 0

Correct Marks : 5 Wrong Marks : 1

Question Key Details :

Key	Value
Comprehension	Comp1

உயர் தொடக்கநிலையில் கற்றுக்கொள்பவர்க்கு அறிவியலின் மூலம் மிகவும் ஆரம்பித்திரைந்தோ அல்லது அதை போன்று வேறு அனுபவங்கள் வழியிலும், கைகளை உபயோகித்து செய்யும் செயல்பாடுகளையும், அவர்களாகவே உருவாக்கும் சிறு சிறு உருவங்களால் அவர்களின் கற்றுக்கொள்ளும் திறன் மற்றும் தொடர்ச்சியாக இந்த சூழ்நிலையில் இருந்தால் மாணவர்கள் நன்முறையில் வளர்த்தெடுக்கப்படுவர்.

ஒரு அறிவியல் ஆசிரியராக நீங்கள் அறிவியல் பூர்வமான கோட்பாடுகளை எளிதில் கற்பிக்கும் முறை இருந்தாலும், கற்பவர்கள் அவற்றையெல்லாம் தன்னுடைய சொந்த முயற்சியில் அதை கற்க அவர்களுக்கு வாய்ப்பு அளிக்கப்பட வேண்டும். கற்பவர்களை அவர்களின் மன நிலையில் இருந்து அவர்களை அர்த்தமுள்ள ஆராய்வுகளாலும் முக்கியமாக சவால்களை தன்னால் சரிசெய்ய முடியும் என்ற மனநிலையோடு நினைக்க வைக்க வேண்டியது மிகவும் முக்கியம்.

ஒரு அறிவியல் ஆசிரியராக மாணவர்களை வகுப்பறையில் கருத்துக்களை ஆசிரியரிடம் பரிமாற வரவேற்க வேண்டும். ஆசிரியராகிய நீங்கள் உங்கள் மாணவர்களிடம் தகவல்களை தன்னை சந்திப்பவர்கள், உறவினர்கள், செய்தித்தாள்கள், இணையம், வயது முதிர்ந்தவர்களிடம் இருந்து பெற்று அதை வகுப்பறையில் ஆசிரியர்களிடமும் தன்னுடைய சக மாணவர்களிடமும் பகிர்ந்துகொள்ள வரவேற்க வேண்டும்.

நாடகம், மாடிரி நடிப்பு, கூடி பயிலும் கற்கும் முறைகளை மாணவர்கள் அதிகமாக பங்கெடுக்க ஊக்குவிக்க வேண்டும். இவற்றினால் அவர்களின் கற்கும் திறன் அதிகரிக்கும். சுயசரிதைகள் மற்றும் மற்றவர்களைப் பற்றிய வாழ்க்கை கதைகளையும், அறிவியல் அறிஞர்கள் சார்ந்த கதைகளையும் மாணவர்கள் வாசித்தால் அவர்களுக்கு மிகவும் உபயோகமாக இருக்கும். இந்த முயற்சியானது எப்போதும் தொடரவேண்டும் ஏனென்றால் தகவல்கள் எப்போதுமே நமக்கு உதவியாக இருக்கும்.

ஒரு வேதியியல் ஆசிரியர் சப் அடாயிக் துகள்கள் பற்றி பாடம் எடுக்கும்போது எந்த விதமான பொருத்தமான கருவி கற்றபின் அதனை சோதனை செய்ய பயன்படும்?

1. அலகு சோதனை
2. வாய்வழி சோதனை
3. ஒரு களத்திட்டம்
4. குறுக்குப் புதிர்

Options :

485584146509. 1
 485584146510. 2
 485584146511. 3
 485584146512. 4

Question Number : 244 Question Id : 48558436629 Question Type : MCQ Option Shuffling : No Is Question Mandatory : No Calculator : None Response Time : N.A Think Time : N.A Minimum Instruction Time : 0

Correct Marks : 5 Wrong Marks : 1

Question Key Details :

Key	Value
Comprehension	Comp1

At the upper primary level, the emphasis is on engaging the learner in learning principles of science through familiar experiences, working with hands to design simple technological units and modules and continuing to learn more on environment and health through activities and surveys.

As a science teacher, you will agree that scientific concepts are learnt better if learners explore them through activities and experiments. Learners should be given opportunity to explore science in their everyday experiences. You should engage learners (preferably in groups) in meaningful investigations - particularly of the problems they perceive to be significant and important.

As a science teacher, you should encourage discussions with the teacher and peers. You can ask your learners to gather information from newspapers, knowledgeable persons in the neighborhood, and from easily available sources and discuss about them in class with peers and teachers.

Role play, skits, cooperative learning strategies should be adopted to ensure larger participation and sharing of learning outcomes. It is advised that biographical narratives of scientists and inventors can be used. You should keep in mind that efforts should be continued for development of the process skills of science.

Which among the following objectives belongs to 'creating' cognitive process domain?

1. making a simple torch
2. explaining how a bulb glows
3. selecting suitable cell for torch
4. Indicating direction of flow of currents

Options :

485584146513. 1

485584146514. 2

485584146515. 3

485584146516. 4

Question Number : 244 Question Id : 48558436629 Question Type : MCQ Option Shuffling : No Is Question Mandatory : No Calculator : None Response Time : N.A Think Time : N.A Minimum Instruction Time : 0

Correct Marks : 5 Wrong Marks : 1

Question Key Details :

Key	Value
Comprehension	Comp1

உயர் தொடக்கநிலையில் கற்றுக்கொள்பவர்க்கு அறிவியலின் மூலம் மிகவும் ஆரம்பித்திலிருந்தோ அல்லது அதை போன்று வேறு அனுபவங்கள் வழியிலும், கைகளை உபயோகித்து செய்யும் செயல்பாடுகளையும், அவர்களாகவே உருவாக்கும் சிறு சிறு உருவங்களால் அவர்களின் கற்றுக்கொள்ளும் திறன் மற்றும் தொடர்ச்சியாக இந்த சூழ்நிலையில் இருந்தால் மாணவர்கள் நன்முறையில் வளர்த்தெடுக்கப்படுவர்.

ஒரு அறிவியல் ஆசிரியராக நீங்கள் அறிவியல் பூர்வமான கோட்பாடுகளை எளிதில் கற்பிக்கும் முறை இருந்தாலும், கற்பவர்கள் அவற்றையெல்லாம் தன்னுடைய சொந்த முயற்சியில் அதை கற்க அவர்களுக்கு வாய்ப்பு அளிக்கப்பட வேண்டும். கற்பவர்களை அவர்களின் மன நிலையில் இருந்து அவர்களை அர்த்தமுள்ள ஆராய்வுகளாலும் முக்கியமாக சவால்களை தன்னால் சரிசெய்ய முடியும் என்ற மனநிலையோடு நினைக்க வைக்க வேண்டியது மிகவும் முக்கியம்.

ஒரு அறிவியல் ஆசிரியராக மாணவர்களை வகுப்பறையில் கருத்துக்களை ஆசிரியரிடம் பரிமாற வரவேற்க வேண்டும். ஆசிரியராகிய நீங்கள் உங்கள் மாணவர்களிடம் தகவல்களை தன்னை சந்திப்பவர்கள், உறவினர்கள், செய்தித்தாள்கள், இணையம், வயது முதிர்ந்தவர்களிடம் இருந்து பெற்று அதை வகுப்பறையில் ஆசிரியர்களிடமும் தன்னுடைய சக மாணவர்களிடமும் பகிர்ந்துகொள்ள வரவேற்க வேண்டும்.

நாடகம், மாடிரி நடிப்பு, கூடி பயிலும் கற்கும் முறைகளை மாணவர்கள் அதிகமாக பங்கெடுக்க ஊக்குவிக்க வேண்டும். இவற்றினால் அவர்களின் கற்கும் திறன் அதிகரிக்கும். சுயசரிதைகள் மற்றும் மற்றவர்களைப் பற்றிய வாழ்க்கை கதைகளையும், அறிவியல் அறிஞர்கள் சார்ந்த கதைகளையும் மாணவர்கள் வாசித்தால் அவர்களுக்கு மிகவும் உபயோகமாக இருக்கும். இந்த முயற்சியானது எப்போதும் தொடரவேண்டும் ஏனென்றால் தகவல்கள் எப்போதுமே நமக்கு உதவியாக இருக்கும்.

கீழ்க்காண்பவற்றுள் எந்த முறை "cognitive process domain" உருவாக்க உதவும்?

1. ஒரு எளிதான கைப்பந்தம் உருவாக்குதல்
2. ஒரு ஒளிவிளக்கு எவ்வாறு ஒளிர்கிறது என்று விளக்குதல்
3. கைபந்தத்திற்கு சரியான செல்களை தேர்ந்தெடுப்பது
4. எந்த இசையில் ஓட்டம் இருக்கிறது என்று குறிப்பிடுவது

Options :

485584146513. 1
485584146514. 2
485584146515. 3
485584146516. 4

Question Number : 245 Question Id : 48558436630 Question Type : MCQ Option Shuffling : No Is Question Mandatory : No Calculator : None Response Time : N.A Think Time : N.A Minimum Instruction Time : 0

Correct Marks : 5 Wrong Marks : 1

Question Key Details :

Key	Value
Comprehension	Comp1

At the upper primary level, the emphasis is on engaging the learner in learning principles of science through familiar experiences, working with hands to design simple technological units and modules and continuing to learn more on environment and health through activities and surveys.

As a science teacher, you will agree that scientific concepts are learnt better if learners explore them through activities and experiments. Learners should be given opportunity to explore science in their everyday experiences. You should engage learners (preferably in groups) in meaningful investigations - particularly of the problems they perceive to be significant and important.

As a science teacher, you should encourage discussions with the teacher and peers. You can ask your learners to gather information from newspapers, knowledgeable persons in the neighborhood, and from easily available sources and discuss about them in class with peers and teachers.

Role play, skits, cooperative learning strategies should be adopted to ensure larger participation and sharing of learning outcomes. It is advised that biographical narratives of scientists and inventors can be used. You should keep in mind that efforts should be continued for development of the process skills of science.

Which among the following is a teacher-centered objective?

1. Children identify different types of nutrition in plants.
2. Children explain various methods of getting nutrition in plants.
3. Teachers show images of autotrophic and heterotrophic nutrition
4. Teachers explain the definition of nutrition and make students memorize it.

Options :

485584146517. 1

485584146518. 2

485584146519. 3

485584146520. 4

Question Number : 245 Question Id : 48558436630 Question Type : MCQ Option Shuffling : No Is Question Mandatory : No Calculator : None Response Time : N.A Think Time : N.A Minimum Instruction Time : 0

Correct Marks : 5 Wrong Marks : 1

Question Key Details :

Key	Value
Comprehension	Comp1

உயர் தொடக்கநிலையில் கற்றுக்கொள்பவர்க்கு அறிவியலின் மூலம் மிகவும் ஆரம்பித்திருந்தோ அல்லது அதை போன்று வேறு அனுபவங்கள் வழியிலும், கைகளை உபயோகித்து செய்யும் செயல்பாடுகளையும், அவர்களாகவே உருவாக்கும் சிறு சிறு உருவங்களால் அவர்களின் கற்றுக்கொள்ளும் திறன் மற்றும் தொடர்ச்சியாக இந்த சூழ்நிலையில் இருந்தால் மாணவர்கள் நன்முறையில் வளர்த்தெடுக்கப்படுவர்.

ஒரு அறிவியல் ஆசிரியராக நீங்கள் அறிவியல் பூர்வமான கோட்பாடுகளை எளிதில் கற்பிக்கும் முறை இருந்தாலும், கற்பவர்கள் அவற்றையெல்லாம் தன்னுடைய சொந்த முயற்சியில் அதை கற்க அவர்களுக்கு வாய்ப்பு அளிக்கப்பட வேண்டும். கற்பவர்களை அவர்களின் மன நிலையில் இருந்து அவர்களை அர்த்தமுள்ள ஆராய்வுகளாலும் முக்கியமாக சவால்களை தன்னால் சரிசெய்ய முடியும் என்ற மனநிலையோடு நினைக்க வைக்க வேண்டியது மிகவும் முக்கியம்.

ஒரு அறிவியல் ஆசிரியராக மாணவர்களை வகுப்பறையில் கருத்துக்களை ஆசிரியரிடம் பரிமாற வரவேற்க வேண்டும். ஆசிரியராகிய நீங்கள் உங்கள் மாணவர்களிடம் தகவல்களை தன்னை சந்திப்பவர்கள், உறவினர்கள், செய்தித்தாள்கள், இணையம், வயது முதிர்ந்தவர்களிடம் இருந்து பெற்று அதை வகுப்பறையில் ஆசிரியர்களிடமும் தன்னுடைய சக மாணவர்களிடமும் பகிர்ந்துகொள்ள வரவேற்க வேண்டும்.

நாடகம், மாடிரி நடிப்பு, கூடி பயிலும் கற்கும் முறைகளை மாணவர்கள் அதிகமாக பங்கெடுக்க ஊக்குவிக்க வேண்டும். இவற்றினால் அவர்களின் கற்கும் திறன் அதிகரிக்கும். சுயசரிதைகள் மற்றும் மற்றவர்களைப் பற்றிய வாழ்க்கை கதைகளையும், அறிவியல் அறிஞர்கள் சார்ந்த கதைகளையும் மாணவர்கள் வாசித்தால் அவர்களுக்கு மிகவும் உபயோகமாக இருக்கும். இந்த முயற்சியானது எப்போதும் தொடரவேண்டும் ஏனென்றால் தகவல்கள் எப்போதுமே நமக்கு உதவியாக இருக்கும்.

கீழ்க்கண்டவற்றுள் எது ஆசிரியர் மையப்படுத்தப்பட்ட கற்பிக்கும் முறை?

1. சூழ்நடைகள் தாவரங்களில் இருக்கும் பல்வேறு விதமான சத்துக்களை கண்டறிதல்
2. சூழ்நடைகள் வெவ்வேறு விதங்களில் தாவரங்களில் உள்ள சத்துக்களை விவரித்தல்
3. ஆசிரியர் ஆட்டோ டிராபிக் மற்றும் ஹைட்ரோடிராபிக் சாதுக்களின் படங்களை காண்பித்தல்
4. ஆசிரியர் பல்வேறு விதமான சத்துக்களையும் அவற்றின் விளக்கங்களையும் மாணவர்களை மனப்பாடம் செய்ய வைப்பது

Options :

485584146517. 1
485584146518. 2
485584146519. 3
485584146520. 4

Sub-Section Number :

3

Sub-Section Id :

4855842704

Question Shuffling Allowed :

No

Is Section Default? :

null

Question Number : 246 Question Id : 48558436631 Question Type : MCQ Option Shuffling : No Is Question Mandatory : No Calculator : None Response Time : N.A Think Time : N.A Minimum Instruction Time : 0

Correct Marks : 5 Wrong Marks : 1

Question Key Details :

Key	Value
Comprehension	Comp2

The spider's web occupies a much larger space than does the animal itself. The web represents the spider's field of action in acting as a trap for insects. It is constructed according to a plan. A thread secreted by the spider joins two branches, two rocks, two supports of any kind; then he weaves the rays. The construction proceeds according to a plan. Finally the spider weaves the thread around the center, going around at an always very carefully calculated distance. If the points of support are close together, the web is small. The greater the distance of one from the other, the larger the web will be. But it will always be woven with the same exactness according to a precise plan.

As is the web, so is the mind of the child constructed according to an exact plan. The abstract construction enables him to grasp what happens in his field, which was out of his range heretofore.

Depending on whether the child lives in a simple civilisation or in a complicated world, his web will be more or less large and will enable him to attain more or fewer objectives.

This is why we must respect the interior construction and its manifestations, which may at times seem useless to us. The construction is necessary. It is thanks to this work that the child enlarges his psychic field and subsequently his receptive powers.

To consider the school as the place where instruction is given is one point of view. But to consider the school as a preparation for life is another. In the latter case the school must satisfy all the needs of life.

An education that suppresses the true nature of the child is an education that leads to the development of anomalies.

Scouting, which, outside of school, has brought an organised form of life to children, has therefore always interested us.

According to the passage, what is the significance of a spider's web to a child's education?

1. Education must be spread out in all domains.
2. Field-based learning is a crucial aspect of education.
3. The administrative web poses an impediment to education.
4. A child's mind is also constructed like a web.

Options :

485584146521. 1
 485584146522. 2
 485584146523. 3
 485584146524. 4

Question Number : 246 Question Id : 48558436631 Question Type : MCQ Option Shuffling : No Is Question Mandatory : No Calculator : None Response Time : N.A Think Time : N.A Minimum Instruction Time : 0

Correct Marks : 5 Wrong Marks : 1

Question Key Details :

Key	Value
Comprehension	Comp2

இதனால் தான் நாம் எப்போதுமே உள்கட்டமைப்பை அதன் வெளிப்பாட்டையும் கணக்கில் கொள்ள வேண்டும். நிறைய நேரங்களில் நம் அதைச் செய்வதில்லை. அது நமக்கு முக்கியமானதாக தெரிவதில்லை. கட்டமைப்பு என்பது முக்கியமானது. இந்தக் கட்டமைப்பினால் குழந்தை தனது நிலையை எளிதாக புரிந்துகொள்ள எதுவாகவும், புரிந்துகொள்ளும் திறனும் அதிகரிக்கும்.

பள்ளிகளில் வெவ்வேறு விதமான தகவல்கள் மற்றும் செயல்படும் முறை வழங்கப்படும் ஆனால் அது ஒரு வகையே/ஒரு பார்வையே.

அதேபோல் பள்ளி வாழ்க்கைக்காக பயிற்றுவிக்கப்படும் இடம் என்று நினைப்பது இன்னொரு நிலை. ஆனால் கடைசியாக பள்ளி குழந்தையின் அனைத்து நிலைகளையும் வளர்க்க வேண்டியது சார்பு நிலைக்கு தள்ளப்படுகிறது.

கல்வி எப்போது குழந்தையின் உண்மையான நிலையை தவிர்க்கின்றதோ அல்லது அதை அழுக்கி வெளிவராமல் செய்கின்றதோ அதனால் குழந்தை பல்வேறு விதமான அநாவசியங்களுக்கு தள்ளப்படும் நிலை உருவாகும்.

பள்ளியின் வெளியே நடைபெறும் அனைத்து பயிற்சிக்கும் குழந்தையின் மன வலிமைக்கும், ஒரு அருமையான கட்டமைப்பிற்கும் உதவும்.

இந்த பத்தியை பொறுத்தவரையில் சிலந்தியின் வலை குழந்தையின் கல்விக்கு எவ்வாறு முக்கியமானதாகும்?

1. கல்வி அனைத்து துறைகளிலும் பரவ வேண்டும்
2. துறை சார்ந்த கற்றல் கல்வியின் முக்கிய அம்சமாகும்
3. நிர்வாக வலையமைப்பு கல்விக்கு இன்றியமையாத ஒன்றாகும்
4. ஒரு குழந்தையின் அறிவு வலையமைப்பு போன்று இருக்கும்

Options :

485584146521. 1

485584146522. 2

485584146523. 3

485584146524. 4

Question Number : 247 Question Id : 48558436632 Question Type : MCQ Option Shuffling : No Is Question Mandatory : No Calculator : None Response Time : N.A Think Time : N.A Minimum Instruction Time : 0

Correct Marks : 5 Wrong Marks : 1

Question Key Details :

Key	Value
Comprehension	Comp2

The spider's web occupies a much larger space than does the animal itself. The web represents the spider's field of action in acting as a trap for insects. It is constructed according to a plan. A thread secreted by the spider joins two branches, two rocks, two supports of any kind; then he weaves the rays. The construction proceeds according to a plan. Finally the spider weaves the thread around the center, going around at an always very carefully calculated distance. If the points of support are close together, the web is small. The greater the distance of one from the other, the larger the web will be. But it will always be woven with the same exactness according to a precise plan.

As is the web, so is the mind of the child constructed according to an exact plan. The abstract construction enables him to grasp what happens in his field, which was out of his range heretofore.

Depending on whether the child lives in a simple civilisation or in a complicated world, his web will be more or less large and will enable him to attain more or fewer objectives.

This is why we must respect the interior construction and its manifestations, which may at times seem useless to us. The construction is necessary. It is thanks to this work that the child enlarges his psychic field and subsequently his receptive powers.

To consider the school as the place where instruction is given is one point of view. But to consider the school as a preparation for life is another. In the latter case the school must satisfy all the needs of life.

An education that suppresses the true nature of the child is an education that leads to the development of anomalies.

Scouting, which, outside of school, has brought an organised form of life to children, has therefore always interested us.

Construction of child's mind is:

1. Independent of his context
2. dependent on school's context only
3. dependent on his context
4. dependent on his family's context only

Options :

- 485584146525. 1
- 485584146526. 2
- 485584146527. 3
- 485584146528. 4

Question Number : 247 Question Id : 48558436632 Question Type : MCQ Option Shuffling : No Is Question Mandatory : No Calculator : None Response Time : N.A Think Time : N.A Minimum Instruction Time : 0

Correct Marks : 5 Wrong Marks : 1

Question Key Details :

Key	Value
Comprehension	Comp2

இதனால் தான் நாம் எப்போதுமே உள்கட்டமைப்பை அதன் வெளிப்பாட்டையும் கணக்கில் கொள்ள வேண்டும். நிறைய நேரங்களில் நம் அதைச் செய்வதில்லை. அது நமக்கு முக்கியமானதாக தெரிவதில்லை. கட்டமைப்பு என்பது முக்கியமானது. இந்தக் கட்டமைப்பினால் குழந்தை தனது நிலையை எளிதாக புரிந்துகொள்ள எதுவாகவும், புரிந்துகொள்ளும் திறனும் அதிகரிக்கும்.

பள்ளிகளில் வெவ்வேறு விதமான தகவல்கள் மற்றும் செயல்படும் முறை வழங்கப்படும் ஆனால் அது ஒரு வகையே/ஒரு பார்வையே.

அதேபோல் பள்ளி வாழ்க்கைக்காக பயிற்றுவிக்கப்படும் இடம் என்று நினைப்பது இன்னொரு நிலை. ஆனால் கடைசியாக பள்ளி குழந்தையின் அனைத்து நிலைகளையும் வளர்க்க வேண்டியது சார்பு நிலைக்கு தள்ளப்படுகிறது.

கல்வி எப்போது குழந்தையின் உண்மையான நிலையை தவிர்க்கின்றதோ அல்லது அதை அழுக்கி வெளிவராமல் செய்கின்றதோ அதனால் குழந்தை பல்வேறு விதமான அநாவசியங்களுக்கு தள்ளப்படும் நிலை உருவாகும்.

பள்ளியின் வெளியே நடைபெறும் அனைத்து பயிற்சிக்கும் குழந்தையின் மன வலிமைக்கும், ஒரு அருமையான கட்டமைப்பிற்கும் உதவும்.

குழந்தையின் மனநிலையை கட்டமைப்பது என்பது:

1. அவருடைய தனிப்பட்ட நோக்கத்தை உள்ளடக்கியது
2. பள்ளியின் தனிப்பட்ட நோக்கத்தை உள்ளடக்கியது
3. அவருடைய நோக்கத்தை உள்ளடக்கியது
4. அவருடைய தனிப்பட்ட குடும்பத்தின் நோக்கத்தை உள்ளடக்கியது

Options :

485584146525. 1

485584146526. 2

485584146527. 3

485584146528. 4

Question Number : 248 Question Id : 48558436633 Question Type : MCQ Option Shuffling : No Is Question Mandatory : No Calculator : None Response Time : N.A Think Time : N.A Minimum Instruction Time : 0

Correct Marks : 5 Wrong Marks : 1

Question Key Details :

Key	Value
Comprehension	Comp2

The spider's web occupies a much larger space than does the animal itself. The web represents the spider's field of action in acting as a trap for insects. It is constructed according to a plan. A thread secreted by the spider joins two branches, two rocks, two supports of any kind; then he weaves the rays. The construction proceeds according to a plan. Finally the spider weaves the thread around the center, going around at an always very carefully calculated distance. If the points of support are close together, the web is small. The greater the distance of one from the other, the larger the web will be. But it will always be woven with the same exactness according to a precise plan.

As is the web, so is the mind of the child constructed according to an exact plan. The abstract construction enables him to grasp what happens in his field, which was out of his range heretofore.

Depending on whether the child lives in a simple civilisation or in a complicated world, his web will be more or less large and will enable him to attain more or fewer objectives.

This is why we must respect the interior construction and its manifestations, which may at times seem useless to us. The construction is necessary. It is thanks to this work that the child enlarges his psychic field and subsequently his receptive powers.

To consider the school as the place where instruction is given is one point of view. But to consider the school as a preparation for life is another. In the latter case the school must satisfy all the needs of life.

An education that suppresses the true nature of the child is an education that leads to the development of anomalies.

Scouting, which, outside of school, has brought an organised form of life to children, has therefore always interested us.

According to the passage, what should be the aim of education?

1. Nurture the true nature of a child.
2. Overpower the interior construction of a child's mind.
3. Restrict a child's psychic field and promote scientific temperament.
4. Provide instruction and enable the child's participation in the economy.

Options :

485584146529. 1

485584146530. 2

485584146531. 3

485584146532. 4

Question Number : 248 Question Id : 48558436633 Question Type : MCQ Option Shuffling : No Is Question Mandatory : No Calculator : None Response Time : N.A Think Time : N.A Minimum Instruction Time : 0

Correct Marks : 5 Wrong Marks : 1

Question Key Details :

Key	Value
Comprehension	Comp2

இதனால் தான் நாம் எப்போதுமே உள்கட்டமைப்பை அதன் வெளிப்பாட்டையும் கணக்கில் கொள்ள வேண்டும். நிறைய நேரங்களில் நம் அதைச் செய்வதில்லை. அது நமக்கு முக்கியமானதாக தெரிவதில்லை. கட்டமைப்பு என்பது முக்கியமானது. இந்தக் கட்டமைப்பினால் குழந்தை தனது நிலையை எளிதாக புரிந்துகொள்ள எதுவாகவும், புரிந்துகொள்ளும் திறனும் அதிகரிக்கும்.

பள்ளிகளில் வெவ்வேறு விதமான தகவல்கள் மற்றும் செயல்படும் முறை வழங்கப்படும் ஆனால் அது ஒரு வகையே/ஒரு பார்வையே.

அதேபோல் பள்ளி வாழ்க்கைக்காக பயிற்றுவிக்கப்படும் இடம் என்று நினைப்பது இன்னொரு நிலை. ஆனால் கடைசியாக பள்ளி குழந்தையின் அனைத்து நிலைகளையும் வளர்க்க வேண்டியது சார்பு நிலைக்கு தள்ளப்படுகிறது.

கல்வி எப்போது குழந்தையின் உண்மையான நிலையை தவிர்க்கின்றதோ அல்லது அதை அழுக்கி வெளிவராமல் செய்கின்றதோ அதனால் குழந்தை பல்வேறு விதமான அநாவசியங்களுக்கு தள்ளப்படும் நிலை உருவாகும்.

பள்ளியின் வெளியே நடைபெறும் அனைத்து பயிற்சிக்கும் குழந்தையின் மன வலிமைக்கும், ஒரு அருமையான கட்டமைப்பிற்கும் உதவும்.

இந்த பத்தியைப் பொறுத்தவரையில் கல்வி என்பதன் நோக்கம் என்ன?

1. குழந்தையின் உண்மையான நிலையை மேம்படுத்துல்
2. குழந்தையின் உள் கட்டமைப்பை அதிக வலுவள்ளதாகுல்
3. குழந்தையினுடைய psychic field ஐக் கடுத்து அறிவியல் பூர்வமான ஆர்வத்தைத் தூண்டும்
4. குழந்தைக்கு போதுமான தகவல்களை வழங்கி அதனை பொருளாதாரத்திலும் நன்றாக பங்கெடுக்க வைக்கும்

Options :

485584146529. 1

485584146530. 2

485584146531. 3

485584146532. 4

Question Number : 249 Question Id : 48558436634 Question Type : MCQ Option Shuffling : No Is Question Mandatory : No Calculator : None Response Time : N.A Think Time : N.A Minimum Instruction Time : 0

Correct Marks : 5 Wrong Marks : 1

Question Key Details :

Key	Value
Comprehension	Comp2

The spider's web occupies a much larger space than does the animal itself. The web represents the spider's field of action in acting as a trap for insects. It is constructed according to a plan. A thread secreted by the spider joins two branches, two rocks, two supports of any kind; then he weaves the rays. The construction proceeds according to a plan. Finally the spider weaves the thread around the center, going around at an always very carefully calculated distance. If the points of support are close together, the web is small. The greater the distance of one from the other, the larger the web will be. But it will always be woven with the same exactness according to a precise plan.

As is the web, so is the mind of the child constructed according to an exact plan. The abstract construction enables him to grasp what happens in his field, which was out of his range heretofore.

Depending on whether the child lives in a simple civilisation or in a complicated world, his web will be more or less large and will enable him to attain more or fewer objectives.

This is why we must respect the interior construction and its manifestations, which may at times seem useless to us. The construction is necessary. It is thanks to this work that the child enlarges his psychic field and subsequently his receptive powers.

To consider the school as the place where instruction is given is one point of view. But to consider the school as a preparation for life is another. In the latter case the school must satisfy all the needs of life.

An education that suppresses the true nature of the child is an education that leads to the development of anomalies.

Scouting, which, outside of school, has brought an organised form of life to children, has therefore always interested us.

In the author's view, what does a limited perspective of education do to a child?

1. Enables him to grasp concepts easily.
2. Helps him to attain more objectives.
3. Suppresses his true nature.
4. Encourages his thinking abilities.

Options :

- 485584146533. 1
- 485584146534. 2
- 485584146535. 3
- 485584146536. 4

Question Number : 249 Question Id : 48558436634 Question Type : MCQ Option Shuffling : No Is Question Mandatory : No Calculator : None Response Time : N.A Think Time : N.A Minimum Instruction Time : 0

Correct Marks : 5 Wrong Marks : 1

Question Key Details :

Key	Value
Comprehension	Comp2

இதனால் தான் நாம் எப்போதுமே உள்கட்டமைப்பை அதன் வெளிப்பாட்டையும் கணக்கில் கொள்ள வேண்டும். நிறைய நேரங்களில் நம் அதைச் செய்வதில்லை. அது நமக்கு முக்கியமானதாக தெரிவதில்லை. கட்டமைப்பு என்பது முக்கியமானது. இந்தக் கட்டமைப்பினால் குழந்தை தனது நிலையை எளிதாக புரிந்துகொள்ள எதுவாகவும், புரிந்துகொள்ளும் திறனும் அதிகரிக்கும்.

பள்ளிகளில் வெவ்வேறு விதமான தகவல்கள் மற்றும் செயல்படும் முறை வழங்கப்படும் ஆனால் அது ஒரு வகையே/ஒரு பார்வையே.

அதேபோல் பள்ளி வாழ்க்கைக்காக பயிற்றுவிக்கப்படும் இடம் என்று நினைப்பது இன்னொரு நிலை. ஆனால் கடைசியாக பள்ளி குழந்தையின் அனைத்து நிலைகளையும் வளர்க்க வேண்டியது சார்பு நிலைக்கு தள்ளப்படுகிறது.

கல்வி எப்போது குழந்தையின் உண்மையான நிலையை தவிர்க்கின்றதோ அல்லது அதை அழுக்கி வெளிவராமல் செய்கின்றதோ அதனால் குழந்தை பல்வேறு விதமான அநாவசியங்களுக்கு தள்ளப்படும் நிலை உருவாகும்.

பள்ளியின் வெளியே நடைபெறும் அனைத்து பயிற்சிக்கும் குழந்தையின் மன வலிமைக்கும், ஒரு அருமையான கட்டமைப்பிற்கும் உதவும்.

குறைந்தபட்ச/செயல்படக்கூடிய கல்வி ஒரு குழந்தைக்கு என்ன செய்யும் என்று ஆசிரியர் கூறினார்?

1. எளிதாக புரிந்துகொள்ளும் நிலை வரும்
2. வெவ்வேறு நோக்கங்களுடன் குழந்தை விளங்க உதவும்
3. குழந்தையின் உண்மையான நிலை வெளிவராமல் உள்ளே அழுக்கப்படும்
4. குழந்தையினுடைய சிந்திக்கும் திறன் ஊக்குவிக்கப்படும்

Options :

485584146533. 1

485584146534. 2

485584146535. 3

485584146536. 4

Question Number : 250 Question Id : 48558436635 Question Type : MCQ Option Shuffling : No Is Question Mandatory : No Calculator : None Response Time : N.A Think Time : N.A Minimum Instruction Time : 0

Correct Marks : 5 Wrong Marks : 1

Question Key Details :

Key	Value
Comprehension	Comp2

The spider's web occupies a much larger space than does the animal itself. The web represents the spider's field of action in acting as a trap for insects. It is constructed according to a plan. A thread secreted by the spider joins two branches, two rocks, two supports of any kind; then he weaves the rays. The construction proceeds according to a plan. Finally the spider weaves the thread around the center, going around at an always very carefully calculated distance. If the points of support are close together, the web is small. The greater the distance of one from the other, the larger the web will be. But it will always be woven with the same exactness according to a precise plan.

As is the web, so is the mind of the child constructed according to an exact plan. The abstract construction enables him to grasp what happens in his field, which was out of his range heretofore.

Depending on whether the child lives in a simple civilisation or in a complicated world, his web will be more or less large and will enable him to attain more or fewer objectives.

This is why we must respect the interior construction and its manifestations, which may at times seem useless to us. The construction is necessary. It is thanks to this work that the child enlarges his psychic field and subsequently his receptive powers.

To consider the school as the place where instruction is given is one point of view. But to consider the school as a preparation for life is another. In the latter case the school must satisfy all the needs of life.

An education that suppresses the true nature of the child is an education that leads to the development of anomalies.

Scouting, which, outside of school, has brought an organised form of life to children, has therefore always interested us.

Which of the following are characteristics of the construction of a child's mind ?

- A. Moving outside the school restricts a child's mind.
- B. A child's mind is constructed according to a precise plan.
- C. Organisation of a child's mind may affect its receptive abilities.
- D. Inhibiting a child's true nature can lead to the development of abnormality.
- E. Concrete construction enables it to access different kinds of knowledge.

Choose the correct answer from the options given below:

- 1. A, C and D only
- 2. A, B and C only
- 3. B, C and D only
- 4. B, C, D and E only

Options :

- 485584146537. 1
- 485584146538. 2
- 485584146539. 3
- 485584146540. 4

Question Number : 250 Question Id : 48558436635 Question Type : MCQ Option Shuffling : No Is Question Mandatory : No Calculator : None Response Time : N.A Think Time : N.A Minimum Instruction Time : 0

Correct Marks : 5 Wrong Marks : 1

Question Key Details :

Key	Value
Comprehension	Comp2

இதனால் தான் நாம் எப்போதுமே உள்கட்டமைப்பை அதன் வெளிப்பாட்டையும் கணக்கில் கொள்ள வேண்டும். நிறைய நேரங்களில் நம் அதைச் செய்வதில்லை. அது நமக்கு முக்கியமானதாக தெரிவதில்லை. கட்டமைப்பு என்பது முக்கியமானது. இந்தக் கட்டமைப்பினால் குழந்தை தனது நிலையை எளிதாக புரிந்துகொள்ள எதுவாகவும், புரிந்துகொள்ளும் திறனும் அதிகரிக்கும்.

பள்ளிகளில் வெவ்வேறு விதமான தகவல்கள் மற்றும் செயல்படும் முறை வழங்கப்படும் ஆனால் அது ஒரு வகையே/ஒரு பார்வையே.

அதேபோல் பள்ளி வாழ்க்கைக்காக பயிற்றுவிக்கப்படும் இடம் என்று நினைப்பது இன்னொரு நிலை. ஆனால் கடைசியாக பள்ளி குழந்தையின் அனைத்து நிலைகளையும் வளர்க்க வேண்டியது சார்பு நிலைக்கு தள்ளப்படுகிறது.

கல்வி எப்போது குழந்தையின் உண்மையான நிலையை தவிர்க்கின்றதோ அல்லது அதை அழுக்கி வெளிவராமல் செய்கிறதோ அதனால் குழந்தை பல்வேறு விதமான அநாவசியங்களுக்கு தள்ளப்படும் நிலை உருவாகும்.

பள்ளியின் வெளியே நடைபெறும் அனைத்து பயிற்சிக்கும் குழந்தையின் மன வலிமைக்கும், ஒரு அருமையான கட்டமைப்பிற்கும் உதவும்.

குழந்தையின் மனதை கட்டமைக்கும் சிறப்பியல்புகளை கீழ்க்கண்டவற்றுள் எழுதுக.

- A. குழந்தை பள்ளியை விட்டு வெளியேறுவது குழந்தையின் மன தடுக்கும்
- B. குழந்தையின் மனது ஒரு கட்டமைக்கப்பட்ட திட்டத்தின்படி இயங்கும்
- C. குழந்தையினுடைய மனதை நிர்வகிப்பது குழந்தையின் உள்வாங்கும் திறனை பாதிக்கும்
- D. குழந்தையின் உண்மையான நிலை வெளிவராமல் இருந்தால் இது குழந்தையின் இயல்புக்கு எதிராக பிரதிபலிக்கும்
- E. கட்டமைக்கப்பட்ட நிலையில் குழந்தை வெவ்வேறு நிலைகளில் அறிவுடன் வளர்க்கும்

கீழே தரப்பட்டுள்ள வாய்ப்புகளில் இருந்து சரியான விடையைத் தேர்ந்தெடுக்கவும்:

1. A, C மற்றும் D மட்டும்
2. A, B மற்றும் C மட்டும்
3. B, C மற்றும் D மட்டும்
4. B, C, D மற்றும் E மட்டும்

Options :

485584146537. 1

485584146538. 2

485584146539.3

485584146540.4